

## Sub Inspector in Delhi Police and Central Armed Police Forces Examination 2023 Paper I

Roll Number	KD JOB UPDATES
Candidate Name	KD JOB UPDATES
Venue Name	iON Digital Zone iDZ Bhagalpur
Exam Date	03/10/2023
Exam Time	4:00 PM - 6:00 PM
Subject	SICPO Paper I 2023

### Section : General Intelligence and Reasoning

Q.1 छः विद्यार्थी प्रतीक, समीर, कबीर, जिया, जोसेफ, किरण एक वृत्ताकार मेज के परितः केंद्र की ओर मुख करके बैठे हैं (उनका इसी क्रम में होना अनिवार्य नहीं है)। प्रतीक, समीर और कबीर दोनों के ठीक बगल में है। जिया, समीर के दाईं ओर दूसरे स्थान पर बैठी है। किरण, कबीर के बाईं ओर तीसरे स्थान पर बैठी है। जोसेफ, जिया और कबीर दोनों के ठीक बगल में है। जोसेफ के बाईं ओर ठीक बगल में कौन बैठा/बैठी है?

- Ans
- 1. जिया
  - 2. किरण
  - 3. कबीर
  - 4. समीर

Question ID : 26433082276

Option 1 ID : 264330322937

Option 2 ID : 264330322939

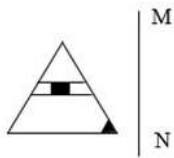
Option 3 ID : 264330322938

Option 4 ID : 264330322940

Status : Answered

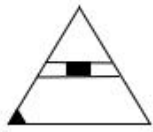
Chosen Option : 3

Q.2 जब दर्पण को रेखा MN पर रखा जाता है, तो दी गई आकृति का सही दर्पण प्रतिबिंब ज्ञात कीजिए।

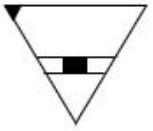


Ans

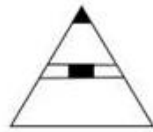
✓ 1.



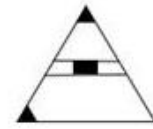
✗ 2.



✗ 3.



✗ 4.



Question ID : 26433056620

Option 1 ID : 264330221467

Option 2 ID : 264330221466

Option 3 ID : 264330221464

Option 4 ID : 264330221465

Status : Answered

Chosen Option : 1

Q.3 "C @ D" का अर्थ है - "C, D की माता है"।  
"C \$ D" का अर्थ है - "C, D का भाई है"।  
"C # D" का अर्थ है - "C, D की बहन है"।  
"C \* D" का अर्थ है - "C, D का पिता है"।  
यदि V \$ Y @ G \* F है, तो Y का F से क्या संबंध है?

Ans ✗ 1. भाई

✗ 2. बहन

✗ 3. बुआ

✓ 4. दादी

Question ID : 264330145389

Option 1 ID : 264330569814

Option 2 ID : 264330569811

Option 3 ID : 264330569812

Option 4 ID : 264330569813

Status : Answered

Chosen Option : 4

Q.4 उस विकल्प का चयन करें, जो पांचवें अक्षर-समूह से उसी प्रकार संबंधित है, जिस प्रकार दूसरा अक्षर-समूह पहले अक्षर-समूह से संबंधित है, और चौथा अक्षर-समूह तीसरे अक्षर-समूह से संबंधित है।

CREATION : ETGCVKQP :: UNIVERSE : WPKXGTUG :: PLANET : ?

- Ans
- 1. RPGGVN
  - 2. RPGVNC
  - 3. RCPNGV
  - 4. RNCPGV

Question ID : 264330145396

Option 1 ID : 264330569842

Option 2 ID : 264330569841

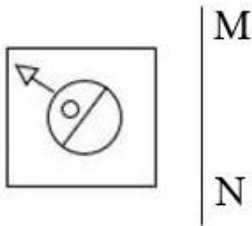
Option 3 ID : 264330569839

Option 4 ID : 264330569840

Status : Answered

Chosen Option : 4

Q.5 जब दर्पण को रेखा MN पर रखा जाता है, तो दी गई आकृति का सही दर्पण प्रतिबिंब ज्ञात कीजिए।



Ans

- 1.
- 2.
- 3.
- 4.

Question ID : 26433056626

Option 1 ID : 264330221488

Option 2 ID : 264330221490

Option 3 ID : 264330221491

Option 4 ID : 264330221489

Status : Answered

Chosen Option : 3

Q.6 यदि 'x' का अर्थ '-', '+' का अर्थ '+', '-' का अर्थ '+' और '+' का अर्थ 'x' है, तो निम्नलिखित व्यंजक का मान क्या होगा?

$$40 + \{[(24 - 12) \times (2 \div 2)] + (18 \times 10)\}$$

- Ans
- 1. 5
  - 2. 1
  - 3. 10
  - 4. 20

Question ID : 264330129641

Option 1 ID : 264330507931

Option 2 ID : 264330507930

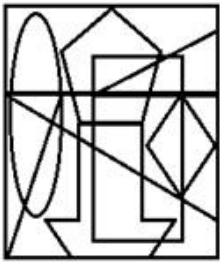
Option 3 ID : 264330507932

Option 4 ID : 264330507933

Status : Answered

Chosen Option : 3

Q.7 उस विकल्प आकृति का चयन कीजिए जो दी गई आकृति में उसके एक भाग के रूप में अंतर्निहित है (आकृति को घमाने की अनुमति नहीं है)।



Ans

- 1.
- 2.
- 3.
- 4.

Question ID : 264330145461

Option 1 ID : 264330570100

Option 2 ID : 264330570102

Option 3 ID : 264330570101

Option 4 ID : 264330570099

Status : Answered

Chosen Option : 1

Q.8 उस विकल्प का चयन कीजिए, जो दिए गए शब्दों के उस सही क्रम को दर्शाता है, जिस क्रम में वे अंग्रेजी शब्दकोश में मौजूद होते हैं।

1. Jalopy
2. Jabber
3. Jackpot
4. Jackdaw
5. Jackal

Ans  1. 4, 5, 2, 3, 1

2. 3, 2, 4, 5, 1

3. 2, 5, 4, 3, 1

4. 2, 4, 3, 1, 5

Question ID : 26433067240

Option 1 ID : 264330263475

Option 2 ID : 264330263474

Option 3 ID : 264330263472

Option 4 ID : 264330263473

Status : Answered

Chosen Option : 3

Q.9 दो कथनों के बाद दो निष्कर्ष I और II दिए गए हैं। कथनों को सत्य मानते हुए, भले ही वे सामान्य रूप से ज्ञात तथ्यों से भिन्न प्रतीत होते हों, यह निर्णय लीजिए कि कौन-से निष्कर्ष कथनों का तार्किक रूप से पालन करते हैं?

कथन:

सभी वस्तुएं सेवाएं हैं।

कोई सेवा डिलीवरी नहीं है।

निष्कर्ष:

I. कोई वस्तु डिलीवरी नहीं है।

II. कुछ वस्तु डिलीवरी हैं।

Ans  1. निष्कर्ष I और II दोनों पालन करते हैं

2. न तो निष्कर्ष I और न ही निष्कर्ष II पालन करता है

3. केवल निष्कर्ष II पालन करता है

4. केवल निष्कर्ष I पालन करता है

Question ID : 26433058041

Option 1 ID : 264330227150

Option 2 ID : 264330227151

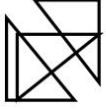
Option 3 ID : 264330227149

Option 4 ID : 264330227148

Status : Answered

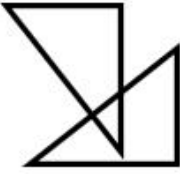
Chosen Option : 4

Q.10 उस विकल्प का चयन कीजिए जो दी गई आकृति में इसके भाग के रूप में अंतर्निहित है (आकृति को घमाने की अनुमति नहीं है)।



Ans


✗ 1.



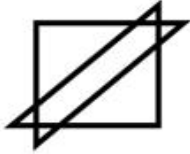
✗ 2.



✓ 3.



✗ 4.



Question ID : 264330145468

Option 1 ID : 264330570127

Option 2 ID : 264330570129

Option 3 ID : 264330570128

Option 4 ID : 264330570130

Status : Answered

Chosen Option : 3

Q.11 यदि '+' का अर्थ '-' है, '-' का अर्थ 'x' है, 'x' का अर्थ '÷' है और '÷' का अर्थ '+' है, तो निम्नलिखित समीकरण में '?' के स्थान पर क्या आएगा?  
 $42 \times 7 - 11 \div 57 + 10 = ?$

Ans ✗ 1. 123

✗ 2. 103

✗ 3. 133

✓ 4. 113

Question ID : 264330101150

Option 1 ID : 264330397145

Option 2 ID : 264330397148

Option 3 ID : 264330397147

Option 4 ID : 264330397146

Status : Answered

Chosen Option : 4

Q.12 एक निश्चित कूट भाषा में, "Here we go" को "asa te du" के रूप में कूटबद्ध किया जाता है, और "We can go" को "du mu asa" के रूप में कूटबद्ध किया जाता है। शब्द "Here" के लिए कूट क्या होगा?

- Ans
- 1. du
  - 2. mu
  - 3. asa
  - 4. te

Question ID : 26433074768  
Option 1 ID : 264330293162  
Option 2 ID : 264330293163  
Option 3 ID : 264330293160  
Option 4 ID : 264330293161  
Status : Answered  
Chosen Option : 4

Q.13 उस विकल्प का चयन करें, जो तीसरे शब्द से उसी प्रकार संबंधित है, जिस प्रकार दूसरा शब्द पहले शब्द से संबंधित है। (शब्दों को अर्थपूर्ण शब्दों के रूप में माना जाना चाहिए, और इन्हें शब्द में अक्षरों की संख्या/व्यंजनों की संख्या/स्वरों की संख्या के आधार पर एक-दूसरे से संबद्ध नहीं किया जाना चाहिए।)  
बिल्ली (Cat) : पंजा (Paw) :: कौवा (Crow) : ?

- Ans
- 1. पंख (Wings)
  - 2. हॉफ (Hoff)
  - 3. चोंच (Beak)
  - 4. पंजा (Claw)

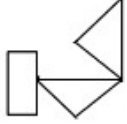
Question ID : 26433087293  
Option 1 ID : 264330342809  
Option 2 ID : 264330342812  
Option 3 ID : 264330342810  
Option 4 ID : 264330342811  
Status : Answered  
Chosen Option : 1

Q.14 A @ B का अर्थ है "A, B का पति है"  
A & B का अर्थ है "A, B की माता है"  
A # B का अर्थ है "A, B की पुत्री है"  
यदि D & G @ F & E @ H है, तो G का H से क्या संबंध है?

- Ans
- 1. पिता
  - 2. सास
  - 3. माता
  - 4. ससुर

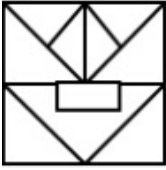
Question ID : 264330126023  
Option 1 ID : 264330493766  
Option 2 ID : 264330493764  
Option 3 ID : 264330493767  
Option 4 ID : 264330493765  
Status : Answered  
Chosen Option : 4

Q.15 उस विकल्प का चयन कीजिए जिसमें दी गई आकृति सन्निहित है (घुमाने की अनुमति नहीं है)।

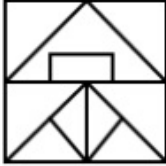


Ans

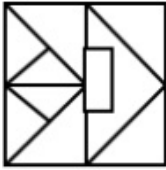
✗ 1.



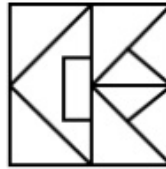
✗ 2.



✗ 3.



✓ 4.



Question ID : 264330126082

Option 1 ID : 264330494003

Option 2 ID : 264330494001

Option 3 ID : 264330494000

Option 4 ID : 264330494002

Status : Answered

Chosen Option : 4

Q.16 \* चिन्हों को क्रमिक रूप से प्रतिस्थापित करने और दिए गए समीकरण को संतुलित करने के लिए गणितीय चिन्हों के सही संयोजन का चयन करें।

$$42 * 7 * 3 * 2 * 13 * 7$$

Ans ✓ 1. ÷, ×, +, =, +

✗ 2. ÷, ×, -, =, ×

✗ 3. ÷, ×, =, +, +

✗ 4. +, =, ÷, ×, +

Question ID : 264330132053

Option 1 ID : 264330517310

Option 2 ID : 264330517309

Option 3 ID : 264330517307

Option 4 ID : 264330517308

Status : Answered

Chosen Option : 1



Q.17 निम्नलिखित में से तीन अक्षर-समूह किसी न किसी तरह से संगत हैं, और एक असंगत है। असंगत अक्षर समूह का चयन करें।

- Ans
- 1. KOLN
  - 2. XBYA
  - 3. MQNP
  - 4. QJPK

Question ID : 264330145348

Option 1 ID : 264330569647

Option 2 ID : 264330569649

Option 3 ID : 264330569650

Option 4 ID : 264330569648

Status : Answered

Chosen Option : 4

Q.18 उस विकल्प का चयन कीजिए जिसमें दी गई आकृति सन्निहित है (घुमाने की अनुमति नहीं है)।



Ans

- 1.
- 2.
- 3.
- 4.

Question ID : 264330126083

Option 1 ID : 264330494007

Option 2 ID : 264330494005

Option 3 ID : 264330494004

Option 4 ID : 264330494006

Status : Answered

Chosen Option : 4

Q.19 मनोज स्थान A से आरंभ करता है, और दक्षिण की ओर X km गाड़ी चलाता है, और फिर बाएं मुड़ता है, और Y km गाड़ी चलाता है। फिर वह दाएं मुड़ता है, और स्थान D पर पहुँचने के लिए 4 km गाड़ी चलाता है। यदि मनोज, स्थान A और D के बीच कुल 17 km गाड़ी चलाता है, और X और Y दोनों पूर्ण वर्ग हैं, जहाँ  $X > Y$  है, तो X का मान क्या है?

- Ans
- 1. 11
  - 2. 4
  - 3. 5
  - 4. 9

Question ID : 26433097237  
Option 1 ID : 264330381647  
Option 2 ID : 264330381648  
Option 3 ID : 264330381646  
Option 4 ID : 264330381645  
Status : Answered  
Chosen Option : 4

Q.20 एक निश्चित कूट भाषा में, "How are you" को "si de tu" के रूप में कूटबद्ध किया जाता है, और "You are fine" को "de mu si" के रूप में कूटबद्ध किया जाता है। शब्द "How" के लिए कूट क्या होगा?

- Ans
- 1. si
  - 2. tu
  - 3. de
  - 4. mu

Question ID : 26433074767  
Option 1 ID : 264330293156  
Option 2 ID : 264330293158  
Option 3 ID : 264330293157  
Option 4 ID : 264330293159  
Status : Answered  
Chosen Option : 2

Q.21 उस समुच्चय का चयन कीजिए जिसमें संख्याएँ उसी प्रकार संबंधित हैं जिस प्रकार निम्नलिखित समुच्चयों की संख्याएँ संबंधित हैं।

(नोट: संख्याओं को उसके घटक अंकों में विभाजित किए बिना, पूर्ण संख्याओं पर संक्रियाएँ की जानी चाहिए। उदाहरण के लिए 13 - इसमें 13 पर जोड़ने / घटाने / गुणा करने आदि जैसी संक्रियाओं को 13 में किया जा सकता है। 13 को 1 और 3 में विभाजित करने और फिर 1 और 3 पर गणितीय संक्रियाएँ करने की अनुमति नहीं है)

(125, 87, 49), (236, 198, 160)

- Ans
- 1. (222, 186, 140)
  - 2. (166, 128, 101)
  - 3. (277, 239, 201)
  - 4. (194, 162, 124)

Question ID : 264330145302  
Option 1 ID : 264330569465  
Option 2 ID : 264330569463  
Option 3 ID : 264330569466  
Option 4 ID : 264330569464  
Status : Answered  
Chosen Option : 3

Q.22 दो कथन दिए गए हैं, जिसके बाद दो निष्कर्ष I और II दिए गए हैं। कथनों को सत्य मानते हुए, भले ही वे सामान्य रूप से ज्ञात तथ्यों से भिन्न प्रतीत होते हों, निर्धारित करें कि कौन-से निष्कर्ष कथनों का तार्किक रूप से पालन करते हैं?

कथन:

सभी कपबोर्ड शोल्फ हैं।

सभी शोल्फ दराज हैं।

निष्कर्ष:

I. सभी कपबोर्ड दराज हैं।

II. सभी दराज शोल्फ हैं।

Ans  1. निष्कर्ष I और II दोनों पालन करते हैं

2. केवल निष्कर्ष I पालन करता है

3. न तो निष्कर्ष I और न ही निष्कर्ष II पालन करता है

4. केवल निष्कर्ष II पालन करता है

Question ID : 26433056710

Option 1 ID : 264330221826

Option 2 ID : 264330221824

Option 3 ID : 264330221827

Option 4 ID : 264330221825

Status : Answered

Chosen Option : 2

Q.23 उस समुच्चय का चयन कीजिए जिसमें संख्याएँ एक-दूसरे से उसी प्रकार संबंधित हैं जिस प्रकार निम्नलिखित समुच्चय की संख्याएँ आपस में संबंधित हैं।

(नोट: संख्याओं को उसके घटक अंकों में विभाजित किए बिना, पूर्ण संख्याओं पर गणितीय संक्रियाएँ की जानी चाहिए। उदाहरण के लिए 13 - संख्या 13 पर गणितीय संक्रियाएँ जैसे कि जोड़ना / घटाना / गुणा करना आदि को 13 से किया जा सकता है। 13 को 1 और 3 में तोड़ना और फिर 1 और 3 पर गणितीय संक्रियाएँ करने की अनुमति नहीं है)

(5, 4, 405)

(7, 3, 500)

Ans  1. (3, 2, 145)

2. (4, 1, 125)

3. (4, 5, 850)

4. (5, 8, 789)

Question ID : 264330145318

Option 1 ID : 264330569528

Option 2 ID : 264330569530

Option 3 ID : 264330569529

Option 4 ID : 264330569527

Status : Not Attempted and Marked For Review

Chosen Option : --

Q.24 एक निश्चित कूट भाषा में "BED" को 9 के रूप में कूटबद्ध किया जाता है, और "TABLE" को 25 के रूप में कूटबद्ध किया जाता है। उसी कूट भाषा में "RECLINER" को किस प्रकार कूटबद्ध किया जाएगा?

Ans  1. 36

2. 58

3. 72

4. 64

Question ID : 264330132207

Option 1 ID : 264330517923

Option 2 ID : 264330517926

Option 3 ID : 264330517925

Option 4 ID : 264330517924

Status : Answered

Chosen Option : 4

Q.25 छह विद्यार्थी एक वृत्ताकार मेज के परितः केंद्र की ओर मुख करके बैठे हैं। A, E और D दोनों के ठीक बगल में है। E, C के दाईं ओर तीसरे स्थान पर बैठा है। D, F के बाईं ओर तीसरे स्थान पर बैठा है। E, F के ठीक बगल में है। B, E के बाईं ओर दूसरे स्थान पर बैठा है। C के बाईं ओर ठीक बगल में कौन बैठा है?

- Ans
- 1. B
  - 2. E
  - 3. A
  - 4. D

Question ID : 26433068167  
Option 1 ID : 264330267181  
Option 2 ID : 264330267183  
Option 3 ID : 264330267180  
Option 4 ID : 264330267182  
Status : Answered  
Chosen Option : 4

Q.26 नीचे दो कथन और दो निष्कर्ष दिए गए हैं। कथनों को सत्य मानते हुए, भले ही वे सामान्य रूप से ज्ञात तथ्यों से भिन्न प्रतीत होते हों, निर्धारित करें कि कौन-से निष्कर्ष दिए गए कथनों का तार्किक रूप से पालन करते हैं?

सभी कुत्ते बिल्लियाँ हैं।  
कुछ बिल्लियाँ गुड़िया नहीं हैं।  
निष्कर्ष:  
I. सभी गुड़िया बिल्लियाँ हैं।  
II. कुछ बिल्लियाँ कुत्ते हैं।

- Ans
- 1. केवल निष्कर्ष II पालन करता है
  - 2. न तो निष्कर्ष I और न ही निष्कर्ष II पालन करता है
  - 3. दोनों निष्कर्ष पालन करते हैं
  - 4. केवल निष्कर्ष I पालन करता है

Question ID : 26433056638  
Option 1 ID : 264330221537  
Option 2 ID : 264330221539  
Option 3 ID : 264330221538  
Option 4 ID : 264330221536  
Status : Answered  
Chosen Option : 2

Q.27 यदि निम्नलिखित आकृति श्रृंखला को जारी रखा जाए, तो दिए गए विकल्पों में से कौन-सी आकृति प्रश्नवाचक चिन्ह (?) को प्रतिस्थापित करेगी?

X	O	Δ	T	X	O	Δ	T	
	S		C	□		∩		?
T	Δ	O	X	T	Δ	O	X	

Ans

✗ 1.

X	T
	P
O	Δ

✓ 2.

X	O
	P
T	Δ

✗ 3.

Δ	O
	P
T	X

✗ 4.

X	O
	∩
T	Δ

Question ID : 264330145484

Option 1 ID : 264330570194

Option 2 ID : 264330570193

Option 3 ID : 264330570191

Option 4 ID : 264330570192

Status : Answered

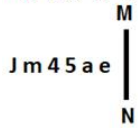
Chosen Option : 2

Q.28 निम्नलिखित में से कौन-सी संख्या दी गई श्रृंखला में प्रश्न-चिह्न (?) का स्थान लेगी?  
1024, 256, 64, ?, 4

- Ans
- 1. 32
  - 2. 34
  - 3. 16
  - 4. 36

Question ID : 26433092492  
Option 1 ID : 264330363257  
Option 2 ID : 264330363258  
Option 3 ID : 264330363260  
Option 4 ID : 264330363259  
Status : Answered  
Chosen Option : 3

Q.29 जब कोई दर्पण प्रदर्शित किए गए MN पर रखा जाए, तो प्रस्तुत आकृति के सही दर्पण-प्रतिबिंब का चयन कीजिए।



- Ans
- 1. e s 4 5 m l
  - 2. e s 2 4 m l
  - 3. e s 2 4 m l
  - 4. e s 4 5 m l

Question ID : 26433055953  
Option 1 ID : 264330218799  
Option 2 ID : 264330218798  
Option 3 ID : 264330218796  
Option 4 ID : 264330218797  
Status : Answered  
Chosen Option : 2

Q.30 एक लड़का 15 m उत्तर की ओर चलता है, दाएं मुड़ता है, और 20 m चलता है। वह फिर से दाएं मुड़ता है, और 15 m चलता है। अंत में, वह अपने बाईं ओर मुड़ता है, और 20 m चलता है। अब वह अपने मूल स्थान से कितनी दूरी पर है?

- Ans
- 1. 40 m
  - 2. 50 m
  - 3. 45 m
  - 4. 46 m

Question ID : 26433082762  
Option 1 ID : 264330324881  
Option 2 ID : 264330324884  
Option 3 ID : 264330324882  
Option 4 ID : 264330324883  
Status : Answered  
Chosen Option : 1

Q.31 उस सही विकल्प का चयन कीजिए, जो दिए गए शब्दों के उसी क्रम में व्यवस्थापन को दर्शाता है, जिस क्रम में वे अंग्रेजी शब्दकोश में मौजूद होते हैं।

1. Glory
2. Glossary
3. Globe
4. Gloss
5. Glow
6. Gloomy

Ans ✓ 1. 3, 6, 1, 4, 2, 5

✗ 2. 6, 3, 1, 4, 2, 5

✗ 3. 3, 6, 1, 2, 4, 5

✗ 4. 3, 1, 6, 4, 2, 5

Question ID : 264330145378

Option 1 ID : 264330569767

Option 2 ID : 264330569769

Option 3 ID : 264330569770

Option 4 ID : 264330569768

Status : Answered

Chosen Option : 1

Q.32 निम्नलिखित में से कौन-सी संख्या, दी गई श्रृंखला में प्रश्न-चिह्न (?) को प्रतिस्थापित करेगी?  
13, 14, -2, 79, -177 ?

Ans ✗ 1. 608

✗ 2. 424

✓ 3. 448

✗ 4. 528

Question ID : 26433069197

Option 1 ID : 264330271300

Option 2 ID : 264330271302

Option 3 ID : 264330271303

Option 4 ID : 264330271301

Status : Not Attempted and  
Marked For Review

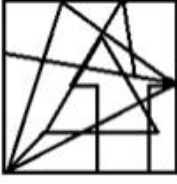
Chosen Option : --

Q.33 उस विकल्प आकृति का चयन करें जिसमें दी गई आकृति निहित है (घुमाने की अनुमति नहीं है)।

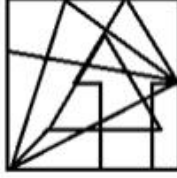


Ans

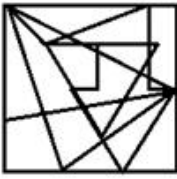
✗ 1.



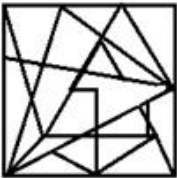
✓ 2.



✗ 3.



✗ 4.



Question ID : 264330145472

Option 1 ID : 264330570144

Option 2 ID : 264330570143

Option 3 ID : 264330570145

Option 4 ID : 264330570146

Status : Not Answered

Chosen Option : --

Q.34 यदि '+' का अर्थ '-' है, '-' का अर्थ '÷' है, '÷' का अर्थ '×' है और '×' का अर्थ '+' है, तो दिए गए समीकरण में प्रश्नवाचक चिह्न (?) के स्थान पर क्या आएगा?

$$15 \div 405 - 3 + 25 \times 5 = ?$$

Ans ✗ 1. 2000

✓ 2. 2005

✗ 3. 1889

✗ 4. 1890

Question ID : 264330114251

Option 1 ID : 264330449089

Option 2 ID : 264330449090

Option 3 ID : 264330449092

Option 4 ID : 264330449091

Status : Answered

Chosen Option : 2



Q.35 उस विकल्प का चयन कीजिए, जो उन अक्षरों को निरूपित करता है, जिन्हें नीचे दिए गए रिक्त स्थानों में क्रमिक रूप से बाएं से दाएं रखे जाने पर अक्षर श्रृंखला पूर्ण हो जाएगी।

L \_ \_ A \_ \_ S \_ \_ K \_ \_ L \_ \_ A

- Ans
- 1. KSLKALSAKA
  - 2. KSKKALSAKA
  - 3. KSLKALSAKS
  - 4. ASLKALSAKA

Question ID : 26433079375  
Option 1 ID : 264330311488  
Option 2 ID : 264330311489  
Option 3 ID : 264330311490  
Option 4 ID : 264330311491  
Status : Answered  
Chosen Option : 3

Q.36 उस विकल्प का चयन करें जो चौथे पद से उसी प्रकार संबंधित है जिस प्रकार पहला पद, दूसरे पद से संबंधित है और पांचवां पद, छठे पद से संबंधित है।

5 : 21 :: ? : 252 :: 27 : 725

- Ans
- 1. 26
  - 2. 10
  - 3. 16
  - 4. 12

Question ID : 26433079356  
Option 1 ID : 264330311414  
Option 2 ID : 264330311412  
Option 3 ID : 264330311413  
Option 4 ID : 264330311415  
Status : Answered  
Chosen Option : 3

Q.37 निम्नलिखित में से कौन-सी संख्या दी गई श्रृंखला में प्रश्नवाचक चिह्न (?) का स्थान लेगी?  
38, 64, 98, 140, ?

- Ans
- 1. 192
  - 2. 190
  - 3. 186
  - 4. 188

Question ID : 26433057329  
Option 1 ID : 264330224302  
Option 2 ID : 264330224301  
Option 3 ID : 264330224303  
Option 4 ID : 264330224300  
Status : Answered  
Chosen Option : 2

Q.38 निम्नलिखित में से कौन-सा पद दी गई श्रृंखला में प्रश्नवाचक चिह्न (?) का स्थान लेगा?

PMRO NKTQ LIVS ? HEZW

- Ans
- 1. JGVU
  - 2. GJXU
  - 3. JGXU
  - 4. JGUX

Question ID : 26433085318

Option 1 ID : 264330334974

Option 2 ID : 264330334976

Option 3 ID : 264330334975

Option 4 ID : 264330334973

Status : Answered

Chosen Option : 3

Q.39 इस प्रश्न में, तीन कथन और उसके बाद दो निष्कर्ष I और II दिए गए हैं। कथनों को सत्य मानते हुए, भले ही वे सामान्यतः ज्ञात तथ्यों से भिन्न प्रतीत होते हों, निर्णय लें कि कौन-से निष्कर्ष तार्किक रूप से कथनों का पालन करते हैं?

कथन:

- I. कोई डीन, शिक्षक नहीं है।
- II. सभी शिक्षक, प्रोफेसर हैं।
- III. कोई प्रोफेसर, लेक्चरर नहीं है।

निष्कर्ष:

- I. कुछ डीन, लेक्चरर हैं।
- II. कुछ शिक्षक, लेक्चरर हैं।

- Ans
- 1. केवल निष्कर्ष II पालन करता है
  - 2. केवल निष्कर्ष I पालन करता है
  - 3. न तो निष्कर्ष I और न ही निष्कर्ष II पालन करता है
  - 4. दोनों निष्कर्ष I और II पालन करते हैं

Question ID : 264330104076

Option 1 ID : 264330408606

Option 2 ID : 264330408605

Option 3 ID : 264330408608

Option 4 ID : 264330408607

Status : Answered

Chosen Option : 3

Q.40 निम्नलिखित में से कौन-सी संख्या दी गई श्रृंखला में प्रश्न-चिह्न (?) का स्थान लेगी?

93, ?, 102, 111, 123, 138

- Ans
- 1. 97
  - 2. 98
  - 3. 96
  - 4. 95

Question ID : 26433091013

Option 1 ID : 264330357461

Option 2 ID : 264330357463

Option 3 ID : 264330357464

Option 4 ID : 264330357462

Status : Answered

Chosen Option : 3

Q.41 यदि '+' का अर्थ '÷', '-' का अर्थ '×', '×' का अर्थ '-', और '÷' का अर्थ '+' है, तो निम्नलिखित व्यंजक का मान क्या होगा?

$$108 \times 343 + 7 - 2 \div 13 = ?$$

- Ans
- 1. 44
  - 2. 19
  - 3. 28
  - 4. 23

Question ID : 264330101247

Option 1 ID : 264330397536

Option 2 ID : 264330397533

Option 3 ID : 264330397534

Option 4 ID : 264330397535

Status : Answered

Chosen Option : 4

Q.42 किसी निश्चित कूट भाषा में, 'CARD' को '3597' के रूप में कूटबद्ध किया जाता है, और 'DOGS' को '8346' के रूप में कूटबद्ध किया जाता है। दी गई उस कूट भाषा में "D" के लिए कूट क्या है?

- Ans
- 1. 9
  - 2. 5
  - 3. 3
  - 4. 4

Question ID : 264330169656

Option 1 ID : 264330665324

Option 2 ID : 264330665323

Option 3 ID : 264330665326

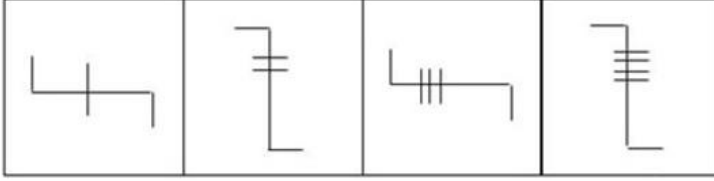
Option 4 ID : 264330665325

Status : Answered

Chosen Option : 3

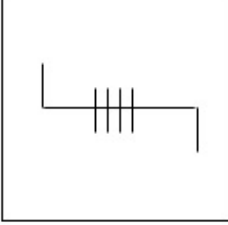
KD JOB UPDATES

Q.43 निम्नलिखित में से कौन-सी आकृति दी गई श्रृंखला में 5वें स्थान पर रखे जाने पर पहली चार आकृतियों द्वारा निर्मित श्रृंखला को जारी रखेगी?

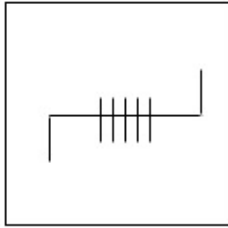


Ans

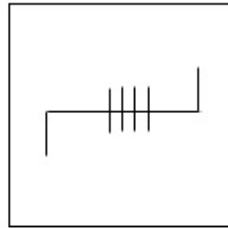
✗ 1.



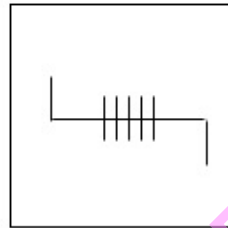
✗ 2.



✗ 3.



✓ 4.



KD JOB UPDATES

Question ID : 26433087303

Option 1 ID : 264330342849

Option 2 ID : 264330342850

Option 3 ID : 264330342852

Option 4 ID : 264330342851

Status : Answered

Chosen Option : 4

Q.44 एक निश्चित कूट भाषा में, 'TOWER' को 'INGYL' और 'SIGHT' को "JTWVJ" के रूप में लिखा जाता है। उसी कूट भाषा में 'BRING' को किस प्रकार लिखा जाएगा?

- Ans
- 1. ACTBE
  - 2. KRPJS
  - 3. LWYDB
  - 4. AKUPW

Question ID : 26433074756

Option 1 ID : 264330293114

Option 2 ID : 264330293112

Option 3 ID : 264330293115

Option 4 ID : 264330293113

Status : Not Attempted and Marked For Review

Chosen Option : --

Q.45 निम्नलिखित में से कौन-सा विकल्प दी गई श्रृंखला में प्रश्नचिह्न (?) के स्थान पर आएगा?  
WWVU , USTQ , ? , QKPI , OGNE

- Ans
- 1. SQRM
  - 2. SROM
  - 3. SORW
  - 4. SORM

Question ID : 264330102491

Option 1 ID : 264330402396

Option 2 ID : 264330402394

Option 3 ID : 264330402395

Option 4 ID : 264330402393

Status : Answered

Chosen Option : 4

Q.46 उस समुच्चय का चयन करें जिसमें संख्याएँ उसी प्रकार संबंधित हैं, जिस प्रकार दिए गए समुच्चय की संख्याएँ हैं।

(नोट: गणितीय संक्रियाएँ संख्याओं को उसके घटक अंकों में विभाजित किए बिना, पूर्ण संख्याओं पर की जानी चाहिए। उदाहरण के लिए 13 - 13 पर गणितीय संक्रियाएँ जैसे कि जोड़ना / घटाना / गुणा करना आदि की जा सकती हैं। 13 को 1 और 3 के रूप में अलग करने और फिर 1 और 3 पर गणितीय संक्रियाएँ करने की अनुमति नहीं है।)  
(6, 8, 106)  
(7, 11, 177)

- Ans
- 1. (8, 7, 119)
  - 2. (9, 8, 154)
  - 3. (5, 9, 101)
  - 4. (7, 9, 136)

Question ID : 26433069114

Option 1 ID : 264330270971

Option 2 ID : 264330270969

Option 3 ID : 264330270970

Option 4 ID : 264330270968

Status : Answered

Chosen Option : 1

Q.47 दिए गए समीकरण को सही बनाने के लिए किन दो गणितीय चिह्न को आपस में बदला जाना चाहिए?

$$(63 \times 21) + 8 + 99 \times 11 \div 16 + (12 \times 4) = 158$$

- Ans
- 1.  $\times$  और  $-$
  - 2.  $\times$  और  $+$
  - 3.  $+$  और  $-$
  - 4.  $+$  और  $\times$

Question ID : 264330145308

Option 1 ID : 264330569490

Option 2 ID : 264330569488

Option 3 ID : 264330569489

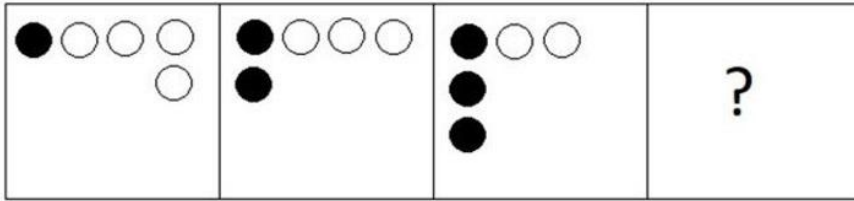
Option 4 ID : 264330569487

Status : Answered

Chosen Option : 4

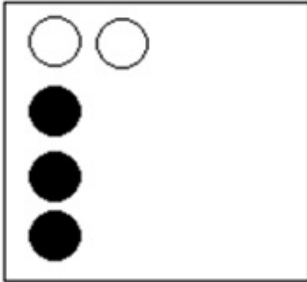
KD JOB UPDATES

Q.48 निम्नलिखित आकृति श्रृंखला में आगे आने वाली आकृति का चयन करें।




Ans


✗ 1.



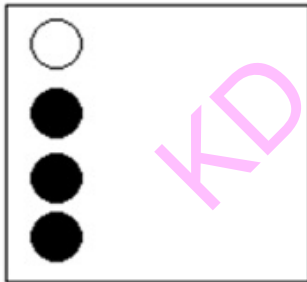
✗ 2.



✓ 3.



✗ 4.



KD JOB UPDATES

Question ID : 26433087074

Option 1 ID : 264330341937

Option 2 ID : 264330341939

Option 3 ID : 264330341938

Option 4 ID : 264330341940

Status : Answered

Chosen Option : 3

Q.49 यदि A का अर्थ '+' हो, B का अर्थ 'x' हो, C का अर्थ '-' हो और D का अर्थ '÷' हो, तो निम्नलिखित समीकरण का मान कितना होगा?  
80 C 16 B 4 A 96 D 4 = ?

- Ans
- 1. 37
  - 2. 120
  - 3. 54
  - 4. 40

Question ID : 264330129788  
Option 1 ID : 264330508383  
Option 2 ID : 264330508385  
Option 3 ID : 264330508384  
Option 4 ID : 264330508386  
Status : Answered  
Chosen Option : 4

Q.50 नीचे दिए गए चार अक्षर-समूहों में से तीन किसी प्रकार से आपस में संबंधित हैं और कोई एक उनसे असंगत है। असंगत अक्षर-समूह का चयन कीजिए।

- Ans
- 1. SUPT
  - 2. PRMQ
  - 3. EHBG
  - 4. JLGK

Question ID : 264330180756  
Option 1 ID : 264330708991  
Option 2 ID : 264330708993  
Option 3 ID : 264330708992  
Option 4 ID : 264330708994  
Status : Answered  
Chosen Option : 3

Section : General Knowledge and General Awareness

Q.1 दाब की मीट्रिक इकाई क्या है, जो 0.986923 atm के बराबर होती है?

- Ans
- 1. बार (Bar)
  - 2. क्वार्ट (Quart)
  - 3. गैलन (Gallon)
  - 4. यार्ड (Yard)

Question ID : 264330110059  
Option 1 ID : 264330432516  
Option 2 ID : 264330432513  
Option 3 ID : 264330432515  
Option 4 ID : 264330432514  
Status : Answered  
Chosen Option : 2



Q.2 किस वर्ष 44वें संशोधन द्वारा संपत्ति के अधिकार को मूल अधिकारों की सूची से हटा दिया गया?

- Ans
- 1. 1973
  - 2. 1981
  - 3. 1975
  - 4. 1978

Question ID : 264330116398  
Option 1 ID : 264330457677  
Option 2 ID : 264330457680  
Option 3 ID : 264330457678  
Option 4 ID : 264330457679  
Status : Answered  
Chosen Option : 4

Q.3 शास्त्रीय नृत्य और नर्तक के सही युग्म का चयन कीजिए।

- Ans
- 1. झेलम परांजपे - कुचिपुड़ी
  - 2. मल्लिका साराभाई - कथक
  - 3. पद्मा सुब्रह्मण्यम - भरतनाट्यम्
  - 4. के. उमा रामा राव - ओडिसी

Question ID : 264330141777  
Option 1 ID : 264330555429  
Option 2 ID : 264330555427  
Option 3 ID : 264330555428  
Option 4 ID : 264330555430  
Status : Answered  
Chosen Option : 3

Q.4 'द ग्रेट इंडियन नॉवेल' \_\_\_\_\_ द्वारा लिखित है, जिसमें उन्होंने अपने व्यंग्य उपन्यास के लिए 'महाभारत' को एक फ्रेमवर्क के रूप में लिया है।

- Ans
- 1. खुशवंत सिंह
  - 2. कुलदीप नैयर
  - 3. शशि थरूर
  - 4. सरोजिनी नायडू

Question ID : 26433071685  
Option 1 ID : 264330281166  
Option 2 ID : 264330281164  
Option 3 ID : 264330281167  
Option 4 ID : 264330281165  
Status : Answered  
Chosen Option : 4

Q.5 दक्षिण भारत में स्थित बांध की पहचान करें।

- Ans
- 1. तिलैया बांध
  - 2. मेट्टूर बांध
  - 3. रिहंद बांध
  - 4. गांधी सागर बांध

Question ID : 264330113264  
Option 1 ID : 264330445143  
Option 2 ID : 264330445141  
Option 3 ID : 264330445142  
Option 4 ID : 264330445144  
Status : Answered  
Chosen Option : 4

Q.6 कबड्डी में प्रथम अर्जुन पुरस्कार विजेता कौन थे?

- Ans
- 1. मंजीत छिल्लर (Manjeet Chhillar)
  - 2. भोलानाथ गुइन (Bholanath Guin)
  - 3. बीसी रमेश (BC Ramesh)
  - 4. सहानंद महादेव शेटी (Sahanand Mahadev Shetty)

Question ID : 26433092338  
Option 1 ID : 264330362652  
Option 2 ID : 264330362651  
Option 3 ID : 264330362650  
Option 4 ID : 264330362649  
Status : Answered  
Chosen Option : 1

Q.7 त्रिकोरकी प्राणियों (triploblastic animals) में पाए जाने वाले तीसरे जनन स्तर (third germinal layer) की पहचान करें।

- Ans
- 1. बाह्य जनन स्तर (Ectoderm)
  - 2. प्रगुहा (Coelom)
  - 3. अंतर्जनस्तर (Endoderm)
  - 4. मध्यजनस्तर (Mesoderm)

Question ID : 264330145217  
Option 1 ID : 264330569123  
Option 2 ID : 264330569125  
Option 3 ID : 264330569124  
Option 4 ID : 264330569126  
Status : Not Answered  
Chosen Option : --

Q.8 भारतीय संविधान के निम्नलिखित में से किस अनुच्छेद में यह उल्लेख है कि भारत सरकार की समस्त कार्यपालिकीय कार्रवाइयाँ राष्ट्रपति के नाम से की हुई कही जाएंगी?

- Ans
- 1. अनुच्छेद 77
  - 2. अनुच्छेद 81
  - 3. अनुच्छेद 48
  - 4. अनुच्छेद 67

Question ID : 264330139436  
Option 1 ID : 264330546178  
Option 2 ID : 264330546177  
Option 3 ID : 264330546175  
Option 4 ID : 264330546176  
Status : Answered  
Chosen Option : 4

Q.9 पाँचवीं शताब्दी ईस्वी का एक नाटक, मालविकाग्निमित्र, \_\_\_\_\_ द्वारा रचित है।

- Ans
- 1. हरिसेना
  - 2. भवभूति
  - 3. कालिदास
  - 4. पिंगला

Question ID : 264330165577  
Option 1 ID : 264330649389  
Option 2 ID : 264330649390  
Option 3 ID : 264330649387  
Option 4 ID : 264330649388  
Status : Answered  
Chosen Option : 2

Q.10 1920 के दशक में इको-ट्रॉफिक इंटरैक्शन की उस विशिष्ट आकृति का वर्णन करने वाला पहला पारिस्थितिकीविद् कौन था, जिसे उन्होंने संख्याओं का पिरामिड कहा था?

- Ans
- 1. अर्न्स्ट हेकेल (Ernst Haeckel)
  - 2. चार्ल्स एल्टन (Charles Elton)
  - 3. एडवर्ड ओ. विल्सन (Edward O Wilson)
  - 4. हावर्ड थॉमस ओडुम (Howard Thomas Odum)

Question ID : 264330145193  
Option 1 ID : 264330569030  
Option 2 ID : 264330569029  
Option 3 ID : 264330569027  
Option 4 ID : 264330569028  
Status : Answered  
Chosen Option : 3

Q.11 निम्नलिखित में से किस भारतीय राज्य में दक्षिण-पश्चिम मानसून सबसे पहले वर्षा लाता है?

- Ans
- 1. आंध्र प्रदेश
  - 2. गोवा
  - 3. तमिलनाडु
  - 4. केरल

Question ID : 264330119787  
Option 1 ID : 264330469423  
Option 2 ID : 264330469426  
Option 3 ID : 264330469424  
Option 4 ID : 264330469425  
Status : Answered  
Chosen Option : 4

Q.12 लोसर (नव वर्ष का महोत्सव) निम्नलिखित में से किस राज्य में मनाया जाता है?

- Ans
- 1. हिमाचल प्रदेश
  - 2. अरुणाचल प्रदेश
  - 3. उत्तराखंड
  - 4. झारखंड

Question ID : 264330164808  
Option 1 ID : 264330646362  
Option 2 ID : 264330646359  
Option 3 ID : 264330646361  
Option 4 ID : 264330646360  
Status : Answered  
Chosen Option : 2

Q.13 भारत की जनगणना 2011 के अनुसार, भारत की कुल जनसंख्या में सिख समुदाय का प्रतिशत कितना था?

- Ans
- 1. 79.8%
  - 2. 0.4%
  - 3. 14.2%
  - 4. 1.7%

Question ID : 264330166807  
Option 1 ID : 264330654264  
Option 2 ID : 264330654265  
Option 3 ID : 264330654263  
Option 4 ID : 264330654266  
Status : Answered  
Chosen Option : 4

Q.14 किस भारतीय संविधान संशोधन अधिनियम द्वारा भारतीय संविधान में 11वां मूल कर्तव्य जोड़ा गया था?

- Ans
- 1. 88वां संविधान संशोधन अधिनियम
  - 2. 86वां संविधान संशोधन अधिनियम
  - 3. 85वां संविधान संशोधन अधिनियम
  - 4. 87वां संविधान संशोधन अधिनियम

Question ID : 264330111513  
Option 1 ID : 264330438140  
Option 2 ID : 264330438138  
Option 3 ID : 264330438137  
Option 4 ID : 264330438139  
Status : Answered  
Chosen Option : 2

Q.15 एस्पिरिन के कारण किस रसायन का संश्लेषण संदमित हो जाता है?

- Ans
- 1. प्रोस्टाग्लेन्डिन (Prostaglandins)
  - 2. हिस्टेमीन (Histamines)
  - 3. पाइराइट (Pyrites)
  - 4. एनालजेसिक (Analgesics)

Question ID : 264330145207  
Option 1 ID : 264330569083  
Option 2 ID : 264330569084  
Option 3 ID : 264330569086  
Option 4 ID : 264330569085  
Status : Not Answered  
Chosen Option : --

Q.16 बंगाल में स्थित सिद्धेश्वर महादेव मंदिर किस राजवंश की वास्तुकला को दर्शाता है?

- Ans
- 1. शुंग राजवंश
  - 2. पाल राजवंश
  - 3. चालुक्य राजवंश
  - 4. हुसैन शाही राजवंश

Question ID : 264330164856  
Option 1 ID : 264330646553  
Option 2 ID : 264330646551  
Option 3 ID : 264330646554  
Option 4 ID : 264330646552  
Status : Answered  
Chosen Option : 2

Q.17 किस नोबेल पुरस्कार विजेता ने 19<sup>वीं</sup> शताब्दी के अंत में एक प्रयोग किया और पाया कि दो धातु की प्लेटों के बीच वोल्टेज आरोपित करने पर, निम्न दाबयुक्त गैस से भरी हुई काँच की नली विकिरण उत्सर्जित करती है?

- Ans
- 1. हिदेकी युकावा (Hideki Yukawa)
  - 2. फिलिप लेनार्ड (Philipp Lenard)
  - 3. विक्टर फ्रांसिस हेस (Victor Francis Hess)
  - 4. पॉल डिराक (Paul Dirac)

Question ID : 264330141665  
Option 1 ID : 264330554981  
Option 2 ID : 264330554982  
Option 3 ID : 264330554979  
Option 4 ID : 264330554980  
Status : Not Answered  
Chosen Option : --

Q.18 निम्नलिखित में से कौन-सा एक खाद्य परिरक्षक (food preservative) नहीं है?

- Ans
- 1. विनेगर (Vinegar)
  - 2. अम्लराज (Aqua regia)
  - 3. सोडियम नाइट्राइट (Sodium nitrite)
  - 4. सोडियम क्लोराइड (Sodium chloride)

Question ID : 26433089678  
Option 1 ID : 264330352213  
Option 2 ID : 264330352216  
Option 3 ID : 264330352214  
Option 4 ID : 264330352215  
Status : Answered  
Chosen Option : 2

Q.19 निम्नलिखित में से कौन-सा अधिनियम राष्ट्रीय ध्वज और राष्ट्रगान के अनादर को रोकता है?

- Ans
- 1. नागरिक स्वतंत्रता अधिनियम, 2001
  - 2. राष्ट्रीय सम्मान संरक्षण अधिनियम, 1996
  - 3. राष्ट्रीय गौरव अपमान निवारण अधिनियम, 1971
  - 4. गैरकानूनी गतिविधियाँ (रोकथाम) अधिनियम, 2006

Question ID : 264330114751  
Option 1 ID : 264330451091  
Option 2 ID : 264330451089  
Option 3 ID : 264330451090  
Option 4 ID : 264330451092  
Status : Answered  
Chosen Option : 2

Q.20 जब भारत के राष्ट्रपति किसी विधेयक (धन विधेयक और संविधान संशोधन विधेयक को छोड़कर) को अनिश्चित काल के लिए लंबित रखते हैं, तो इसे \_\_\_\_\_ कहते हैं।

- Ans
- 1. राष्ट्रपति का संशोधनकारी निषेधाधिकार (amendatory veto of the President)
  - 2. राष्ट्रपति का पूर्ण निषेधाधिकार (absolute veto of the President)
  - 3. राष्ट्रपति का पॉकेट वीटो (pocket veto of the President)
  - 4. राष्ट्रपति का निलंबन निषेधाधिकार (suspensive veto of the President)

Question ID : 264330113415  
Option 1 ID : 264330445748  
Option 2 ID : 264330445747  
Option 3 ID : 264330445745  
Option 4 ID : 264330445746  
Status : Answered  
Chosen Option : 2

Q.21 2010 में, इसके उत्कृष्ट मूल्य और भेद्यता को देखते हुए, यूनेस्को (UNESCO) ने \_\_\_\_\_ के एक सदियों पुराने अनुष्ठान-नाटक 'मुदियेट्टु (Mudiyettu)' को 'मानवता की अमूर्त सांस्कृतिक विरासत' के रूप में मान्यता दी।

- Ans
- 1. तमिलनाडु
  - 2. केरल
  - 3. कर्नाटक
  - 4. तेलंगाना

Question ID : 26433054505  
Option 1 ID : 264330213004  
Option 2 ID : 264330213006  
Option 3 ID : 264330213005  
Option 4 ID : 264330213007  
Status : Not Answered  
Chosen Option : --

Q.22 शतरंज में प्यादों (Pawn) की संख्या \_\_\_\_\_ होती है।

- Ans
- 1. 15
  - 2. 17
  - 3. 16
  - 4. 14

Question ID : 264330109730  
Option 1 ID : 264330431198  
Option 2 ID : 264330431200  
Option 3 ID : 264330431199  
Option 4 ID : 264330431197  
Status : Answered  
Chosen Option : 3

Q.23 ब्रिटिश संसद द्वारा अधिनियमित निम्नलिखित में से कौन-सा अधिनियम भारतीय कानूनों के समेकन और संहिताकरण के लिए एक विधि आयोग की स्थापना के लिए प्रदान किया गया?

- Ans
- 1. भारत सरकार अधिनियम, 1919
  - 2. भारतीय परिषद अधिनियम, 1909
  - 3. चार्टर अधिनियम, 1833
  - 4. चार्टर अधिनियम, 1813

Question ID : 264330112336  
Option 1 ID : 264330441429  
Option 2 ID : 264330441432  
Option 3 ID : 264330441430  
Option 4 ID : 264330441431  
Status : Answered  
Chosen Option : 3

Q.24 हुक्का जलप्रपात (Huka Falls) कहाँ स्थित है?

- Ans  1. ऑस्ट्रेलिया  
 2. न्यूजीलैंड  
 3. स्पेन  
 4. जर्मनी

Question ID : 26433064473  
Option 1 ID : 264330252484  
Option 2 ID : 264330252485  
Option 3 ID : 264330252487  
Option 4 ID : 264330252486  
Status : Not Answered  
Chosen Option : --

Q.25 प्रसिद्ध संगीतकार तलवीन सिंह \_\_\_\_\_ वादन से संबंधित हैं।

- Ans  1. बांसुरी  
 2. तबला  
 3. शहनाई  
 4. वीणा

Question ID : 264330145187  
Option 1 ID : 264330569005  
Option 2 ID : 264330569004  
Option 3 ID : 264330569006  
Option 4 ID : 264330569003  
Status : Answered  
Chosen Option : 4

Q.26 निम्नलिखित नेताओं में से किसने 1940 में कांग्रेस की महिला विंग की स्थापना की थी?

- Ans  1. सुचेला कृपलानी  
 2. अरुणा आसफ अली  
 3. लक्ष्मी सहगल  
 4. सरोजिनी नायडू

Question ID : 26433099176  
Option 1 ID : 264330389317  
Option 2 ID : 264330389319  
Option 3 ID : 264330389318  
Option 4 ID : 264330389320  
Status : Answered  
Chosen Option : 3

Q.27 मानसून के संबंध में गलत कथन का चयन कीजिए।

- Ans
- 1. दक्षिण-पश्चिम मानसूनी पवनें, उष्ण महासागरों के ऊपर से बहती हैं, आर्द्रता को एकत्रित करती हैं, और भारत के मुख्य भू-भाग पर व्यापक वर्षा लाती हैं।
  - 2. मॉनसूनों की तीव्रता का अनुमान लगाने के लिए ताहिती (प्रशांत महासागर) और उत्तरी ऑस्ट्रेलिया (हिंद महासागर) में डार्विन पर दाब के अंतर की गणना की जाती है।
  - 3. मेडागास्कर के पूर्व में स्थित उच्च दाब वाले क्षेत्र की तीव्रता और स्थिति भारतीय मानसून को प्रभावित करती है।
  - 4. पश्चिमी चक्रवातीय विक्षोभ मानसून की वापसी या निवर्तन के कारण उत्पन्न होते हैं।

Question ID : 264330169316

Option 1 ID : 264330664043

Option 2 ID : 264330664044

Option 3 ID : 264330664045

Option 4 ID : 264330664046

Status : Answered

Chosen Option : 2

Q.28 निम्नलिखित में से किस योजना में इनपुटों की खरीद, सामान्य सेवाओं का लाभ उठाने, और उत्पादों के विपणन की दृष्टि से बड़े पैमाने पर उत्पादन का लाभ उठाने के लिए एक जिला एक उत्पाद (ODOP) दृष्टिकोण अपनाया जाता है?

- Ans
- 1. खाद्य प्रसंस्करण उद्योग के लिए उत्पादन लिंक प्रोत्साहन योजना (PLISFPI)
  - 2. प्रधानमंत्री किसान संपदा योजना
  - 3. सूक्ष्म और लघु उद्यम क्लस्टर विकास कार्यक्रम (MSE-CDP)
  - 4. प्रधानमंत्री सूक्ष्म खाद्य प्रसंस्करण उद्योग उन्नयन योजना (PMFME)

Question ID : 26433064564

Option 1 ID : 264330252850

Option 2 ID : 264330252849

Option 3 ID : 264330252851

Option 4 ID : 264330252848

Status : Answered

Chosen Option : 3

Q.29 भारत में ब्रिटिश शासन के तहत, निम्नलिखित में से किस गवर्नर जनरल ने ईस्ट इंडिया कंपनी के प्रशासन को पेशेवर, नौकरशाही और यूरोपीयकृत किया?

- Ans
- 1. लॉर्ड डलहौजी (Lord Dalhousie)
  - 2. लॉर्ड कॉर्नवालिस (Lord Cornwallis)
  - 3. लॉर्ड कैनिंग (Lord Canning)
  - 4. वारेन हेस्टिंग्स (Warren Hastings)

Question ID : 264330165381

Option 1 ID : 264330648603

Option 2 ID : 264330648606

Option 3 ID : 264330648605

Option 4 ID : 264330648604

Status : Answered

Chosen Option : 3



Q.30 पाँचवें खेलो इंडिया यूथ गेम्स 2022 का मेजबान कौन-सा राज्य था?

- Ans  1. हरियाणा  
 2. मध्य प्रदेश  
 3. उत्तराखंड  
 4. झारखंड

Question ID : 264330119246  
Option 1 ID : 264330467274  
Option 2 ID : 264330467273  
Option 3 ID : 264330467272  
Option 4 ID : 264330467271  
Status : Answered  
Chosen Option : 2

Q.31 अलार्मेल वल्ली (Alarmel Valli) एक भारतीय शास्त्रीय नृत्यांगना और कोरियोग्राफर हैं, और भरतनाट्यम् की \_\_\_\_\_ नृत्य शैली की सर्वप्रथम प्रतिपादक (foremost exponent) हैं।

- Ans  1. पंडनल्लूर शैली (Pandanalur style)  
 2. वजुवूर शैली (Vazhuvoor style)  
 3. तरंगम शैली (Tarangam style)  
 4. मेलतूर शैली (Melattur style)

Question ID : 264330145149  
Option 1 ID : 264330568851  
Option 2 ID : 264330568852  
Option 3 ID : 264330568854  
Option 4 ID : 264330568853  
Status : Not Answered  
Chosen Option : --

Q.32 In which type of tax is the marginal tax rate higher than the average tax rate?

- Ans  1. Progressive  
 2. Digressive  
 3. Proportional  
 4. Regressive

Question ID : 264330141432  
Option 1 ID : 264330554064  
Option 2 ID : 264330554065  
Option 3 ID : 264330554063  
Option 4 ID : 264330554066  
Status : Answered  
Chosen Option : 2

Q.33 निम्नलिखित में से कौन-सी मस्जिद दिल्ली सल्तनत के लोदी वंश के शासनकाल में बनाई गई थी?

- Ans  1. लाल मस्जिद, दिल्ली  
 2. बेगमपुरी मस्जिद, दिल्ली  
 3. मोठ की मस्जिद, दिल्ली  
 4. कुव्वत अल-इस्लाम, दिल्ली

Question ID : 264330106563  
Option 1 ID : 264330418556  
Option 2 ID : 264330418554  
Option 3 ID : 264330418555  
Option 4 ID : 264330418553  
Status : Answered  
Chosen Option : 4

Q.34 In which of the following processes nutrients or contaminants are carried away by water or moved into the lower layer of the soil?

- Ans
- 1. Sowing
  - 2. Ploughing
  - 3. Leaching
  - 4. Bleaching

Question ID : 264330163195  
Option 1 ID : 264330640092  
Option 2 ID : 264330640094  
Option 3 ID : 264330640093  
Option 4 ID : 264330640091  
Status : Answered  
Chosen Option : 3

Q.35 निम्नलिखित में से किसे 'भारत में कर्नाटक संगीत का जनक' माना जाता है?

- Ans
- 1. कृष्णा भारती
  - 2. गोपाल
  - 3. नारायण तीर्थ
  - 4. पुरंदर दास

Question ID : 26433074823  
Option 1 ID : 264330293382  
Option 2 ID : 264330293381  
Option 3 ID : 264330293383  
Option 4 ID : 264330293380  
Status : Answered  
Chosen Option : 2

Q.36 स्थलीय ग्रह (Terrestrial planets) \_\_\_\_\_ से बने होते हैं।

- Ans
- 1. धातुओं और वायु
  - 2. चट्टानों और गैस
  - 3. धातुओं और गैस
  - 4. चट्टानों और धातुओं

Question ID : 264330113352  
Option 1 ID : 264330445495  
Option 2 ID : 264330445494  
Option 3 ID : 264330445493  
Option 4 ID : 264330445496  
Status : Answered  
Chosen Option : 3

Q.37 जुलाई 2018 में, अंतर्राष्ट्रीय अंतरिक्ष स्टेशन पर हुए एक प्रयोग में, किस रासायनिक तत्व के परमाणुओं के एक क्लाउड को परम शून्य तापमान (absolute zero) से एक केल्विन के एक-बटे-दस मिलियनवें (one ten-millionth of one Kelvin) हिस्से के बराबर ऊपर ठंडा किया गया, जिसके परिणामस्वरूप अंतरिक्ष में बोस-आइंस्टीन कंडेनसेट निर्मित हुआ?

- Ans
- 1. थोरियम
  - 2. प्लूटोनियम
  - 3. रेडियम
  - 4. रुबीडियम

Question ID : 264330110065

Option 1 ID : 264330432540

Option 2 ID : 264330432538

Option 3 ID : 264330432537

Option 4 ID : 264330432539

Status : Answered

Chosen Option : 1

Q.38 कीमिया (alchemy) में एक्वा फोर्टिस (aqua fortis) किस रासायनिक यौगिक का प्राचीन नाम (classical name) है, जिसका उपयोग मुख्य रूप से विस्फोटकों और उर्वरकों के निर्माण और कार्बनिक संश्लेषण में किया जाता है?

- Ans
- 1. फॉर्मिक अम्ल
  - 2. हाइड्रोब्रोमिक अम्ल
  - 3. क्लोरिक अम्ल
  - 4. नाइट्रिक अम्ल

Question ID : 26433055081

Option 1 ID : 264330215308

Option 2 ID : 264330215311

Option 3 ID : 264330215309

Option 4 ID : 264330215310

Status : Answered

Chosen Option : 3

Q.39 भारतीय लघु उद्योग विकास बैंक (SIDBI) की स्थापना किस वर्ष की गई थी?

- Ans
- 1. 1989
  - 2. 1990
  - 3. 1988
  - 4. 1987

Question ID : 264330145247

Option 1 ID : 264330569245

Option 2 ID : 264330569246

Option 3 ID : 264330569244

Option 4 ID : 264330569243

Status : Answered

Chosen Option : 3

Q.40 बिफोर वी विज़िट द गॉड्डेस (Before We Visit the Goddess)' उपन्यास के लेखक/लेखिका कौन हैं?

- Ans  1. चित्रा बैनर्जी दिवाकरूणी  
 2. किरण दोशी  
 3. झुम्पा लाहिड़ी  
 4. अरुंधति राय

Question ID : 264330145173  
Option 1 ID : 264330568949  
Option 2 ID : 264330568947  
Option 3 ID : 264330568948  
Option 4 ID : 264330568950  
Status : Not Answered  
Chosen Option : --

Q.41 निम्नलिखित में से किसे पूंजीगत व्यय माना जाता है?

- Ans  1. पेंशन  
 2. सव्बिडी  
 3. स्कूल की इमारत का निर्माण  
 4. वेतनों का भुगतान

Question ID : 264330145243  
Option 1 ID : 264330569230  
Option 2 ID : 264330569228  
Option 3 ID : 264330569227  
Option 4 ID : 264330569229  
Status : Answered  
Chosen Option : 3

Q.42 भारत की प्राकृतिक वनस्पति व्यापक रूप से \_\_\_\_\_ समूहों में विभाजित है।

- Ans  1. 6  
 2. 7  
 3. 9  
 4. 5

Question ID : 264330163241  
Option 1 ID : 264330640277  
Option 2 ID : 264330640276  
Option 3 ID : 264330640275  
Option 4 ID : 264330640278  
Status : Answered  
Chosen Option : 4

Q.43 निम्नलिखित में से कौन-सा तत्व एक्टिनाइड श्रेणी का सदस्य है?

- Ans  1. थोरियम (Thorium)  
 2. लैंथेनम (Lanthanum)  
 3. मैग्नीशियम (Magnesium)  
 4. ल्यूटीशियम (Lutetium)

Question ID : 264330131695  
Option 1 ID : 264330515882  
Option 2 ID : 264330515879  
Option 3 ID : 264330515881  
Option 4 ID : 264330515880  
Status : Not Answered  
Chosen Option : --

Q.44 वर्ष 1991-92 के दौरान, औद्योगिक उत्पादन में \_\_\_\_\_ की \_\_\_\_\_ वृद्धि दर्ज की गई।

- Ans
- 1. 1.1 प्रतिशत, धनात्मक
  - 2. 0.9 प्रतिशत, ऋणात्मक
  - 3. 1.1 प्रतिशत, ऋणात्मक
  - 4. 0.6 प्रतिशत, धनात्मक

Question ID : 264330114279  
Option 1 ID : 264330449204  
Option 2 ID : 264330449201  
Option 3 ID : 264330449203  
Option 4 ID : 264330449202  
Status : Answered  
Chosen Option : 1

Q.45 मध्य और पश्चिमी भारत में मनाया जाने वाला गणगौर उत्सव, किस देवी से संबंधित है?

- Ans
- 1. देवी सरस्वती
  - 2. देवी पार्वती
  - 3. देवी काली
  - 4. देवी लक्ष्मी

Question ID : 264330145142  
Option 1 ID : 264330568826  
Option 2 ID : 264330568825  
Option 3 ID : 264330568824  
Option 4 ID : 264330568823  
Status : Answered  
Chosen Option : 2

Q.46 भारत के संविधान के अनुच्छेद 111 के तहत, कोई धन विधेयक, जो राष्ट्रपति के समक्ष अनुमति के लिए प्रस्तुत किया जाता है, \_\_\_\_\_ द्वारा हस्ताक्षरित एक पृष्ठांकित प्रमाण पत्र द्वारा समर्थित होना चाहिए कि यह एक धन विधेयक है।

- Ans
- 1. लोकसभा के महासचिव
  - 2. लोकसभा अध्यक्ष
  - 3. राज्य सभा के महासचिव
  - 4. राज्यसभा के उपसभापति

Question ID : 264330145266  
Option 1 ID : 264330569319  
Option 2 ID : 264330569322  
Option 3 ID : 264330569320  
Option 4 ID : 264330569321  
Status : Answered  
Chosen Option : 2

Q.47 बैडमिंटन नेट की ऊंचाई कितनी होती है?

- Ans
- 1. 6.5 फुट
  - 2. 5.5 फुट
  - 3. 6 फुट
  - 4. 5.1 फुट

Question ID : 26433071382  
Option 1 ID : 264330279954  
Option 2 ID : 264330279955  
Option 3 ID : 264330279953  
Option 4 ID : 264330279952  
Status : Answered  
Chosen Option : 2

Q.48 वर्ष 2011 की जनगणना के अनुसार, निम्न में से किस केंद्र शासित प्रदेश की साक्षरता दर सबसे कम है?

- Ans  1. दमन और दीव  
 2. दादरा और नगर हवेली  
 3. दिल्ली  
 4. लक्षद्वीप

Question ID : 264330109509  
Option 1 ID : 264330430316  
Option 2 ID : 264330430314  
Option 3 ID : 264330430315  
Option 4 ID : 264330430313  
Status : Answered  
Chosen Option : 2

Q.49 सत्रीया को \_\_\_\_\_ में संगीत नाटक अकादमी द्वारा शास्त्रीय नृत्य के रूप में मान्यता दी गई थी।

- Ans  1. 2000  
 2. 2005  
 3. 2020  
 4. 2010

Question ID : 26433054502  
Option 1 ID : 264330212992  
Option 2 ID : 264330212993  
Option 3 ID : 264330212995  
Option 4 ID : 264330212994  
Status : Answered  
Chosen Option : 1

Q.50 शत्रुओं को परास्त करने के लिए उत्तर भारत में बारूद के प्रयोग को किसने प्रचलित किया?

- Ans  1. इब्राहिम लोदी  
 2. बाबर  
 3. राणा सांगा  
 4. दौलत खान लोदी

Question ID : 264330109023  
Option 1 ID : 264330428370  
Option 2 ID : 264330428371  
Option 3 ID : 264330428369  
Option 4 ID : 264330428372  
Status : Answered  
Chosen Option : 2

Section : Quantitative Aptitude

Q.1 मयूर ने एक घड़ी को 7% लाभ पर बेचा। यदि वह इसे ₹1,329 अधिक में बेचता, तो उसे 57% का लाभ होता। घड़ी का क्रय मूल्य (₹में) ज्ञात कीजिए।

- Ans
- 1. 2580
  - 2. 2856
  - 3. 2420
  - 4. 2658

Question ID : 264330102342  
Option 1 ID : 264330401834  
Option 2 ID : 264330401836  
Option 3 ID : 264330401833  
Option 4 ID : 264330401835  
Status : Answered  
Chosen Option : 4

Q.2 यदि एक गोले की त्रिज्या दोगुनी कर दी जाए, तो उसका पृष्ठीय क्षेत्रफल कितना बढ़ जाएगा?

- Ans
- 1. 300%
  - 2. 100%
  - 3. 400%
  - 4. 200%

Question ID : 264330104213  
Option 1 ID : 264330409155  
Option 2 ID : 264330409153  
Option 3 ID : 264330409156  
Option 4 ID : 264330409154  
Status : Answered  
Chosen Option : 1

Q.3  $\triangle PQR$  और  $\triangle ABC$  में,  $\angle P = \angle A$  और  $AC = PR$  है। त्रिभुज  $PQR$  और  $ABC$  के सर्वांगसम होने के लिए निम्नलिखित में से कौन-सी स्थिति सत्य है?

- Ans
- 1.  $AB = PQ$  [भुजा-भुजा-भुजा (SSS) द्वारा]
  - 2.  $BC = QR$  [कोण-भुजा-भुजा (ASS) द्वारा]
  - 3.  $\angle Q = \angle B$  [कोण-कोण-कोण (AAA) द्वारा]
  - 4.  $AB = PQ$  [भुजा-कोण-भुजा (SAS) द्वारा]

Question ID : 264330157068  
Option 1 ID : 264330615644  
Option 2 ID : 264330615643  
Option 3 ID : 264330615646  
Option 4 ID : 264330615645  
Status : Answered  
Chosen Option : 4

Q.4 12, 18 और 42 का महत्तम समापवर्तक (HCF) क्या है?

- Ans
- 1. 60
  - 2. 12
  - 3. 123
  - 4. 6

Question ID : 264330145080  
Option 1 ID : 264330568577  
Option 2 ID : 264330568576  
Option 3 ID : 264330568578  
Option 4 ID : 264330568575  
Status : Answered  
Chosen Option : 4

Q.5 यदि  $\tan A = \frac{2}{5}$  है, तो  $\frac{\sec^2 A}{\operatorname{cosec}^2 A}$  का मान ज्ञात कीजिए।

Ans

1.  $\frac{2}{5}$

2.  $\frac{4}{25}$

3.  $\frac{3}{5}$

4.  $\frac{9}{25}$

Question ID : 264330145127

Option 1 ID : 264330568763

Option 2 ID : 264330568765

Option 3 ID : 264330568764

Option 4 ID : 264330568766

Status : Answered

Chosen Option : 2

Q.6 एक समबाहु त्रिभुज का क्षेत्रफल  $173.2 \text{ cm}^2$  है। इसकी भुजा \_\_\_\_\_ होगी।

Ans  1. 21.32 cm

2. 20 cm

3. 17.32 cm

4. 22 cm

Question ID : 264330145121

Option 1 ID : 264330568741

Option 2 ID : 264330568740

Option 3 ID : 264330568739

Option 4 ID : 264330568742

Status : Answered

Chosen Option : 2

Q.7 उस समचतुर्भुज का क्षेत्रफल ज्ञात कीजिए, जिसका परिमाण 52 cm है, और उसके एक विकर्ण की लंबाई 10 cm है।

Ans  1.  $144 \text{ cm}^2$

2.  $160 \text{ cm}^2$

3.  $164 \text{ cm}^2$

4.  $120 \text{ cm}^2$

Question ID : 26433080062

Option 1 ID : 264330314198

Option 2 ID : 264330314196

Option 3 ID : 264330314199

Option 4 ID : 264330314197

Status : Answered

Chosen Option : 1



Q.8 7 cm त्रिज्या वाले एक अर्धगोले के वक्र पृष्ठीय क्षेत्रफल (CSA) और संपूर्ण पृष्ठीय क्षेत्रफल (TSA) ज्ञात कीजिए।

- Ans
- 1. CSA – 320 cm<sup>2</sup>; TSA – 480 cm<sup>2</sup>
  - 2. CSA – 412 cm<sup>2</sup>; TSA – 544 cm<sup>2</sup>
  - 3. CSA – 308 cm<sup>2</sup>; TSA – 462 cm<sup>2</sup>
  - 4. CSA – 350 cm<sup>2</sup>; TSA – 500 cm<sup>2</sup>

Question ID : 264330103750  
Option 1 ID : 264330407306  
Option 2 ID : 264330407308  
Option 3 ID : 264330407305  
Option 4 ID : 264330407307  
Status : Answered  
Chosen Option : 3

Q.9 एक स्पीडबोट, जिसकी चाल शांत जल में 20 km/h है, को धारा की दिशा में 35 km जाने, और वापस लौटकर आने में कुल 8 घंटे लगते हैं। धारा की चाल कितनी है?

- Ans
- 1. 15 km/h
  - 2. 10 km/h
  - 3. 20 km/h
  - 4. 5 km/h

Question ID : 264330103744  
Option 1 ID : 264330407283  
Option 2 ID : 264330407282  
Option 3 ID : 264330407284  
Option 4 ID : 264330407281  
Status : Answered  
Chosen Option : 1

Q.10 निम्नलिखित तालिका अलग-अलग वर्षों में विभिन्न फर्मों की कमाई (₹ करोड़ में) दर्शाती है।

फर्म/वर्ष	2012	2013	2014	2015	2016
P	50	45	49	56	57
Q	46	48	50	55	62
R	70	65	63	68	73
S	38	47	56	60	69

वर्ष 2015 में किस फर्म की कमाई (₹ करोड़ में) सबसे अधिक थी?

- Ans
- 1. S
  - 2. R
  - 3. Q
  - 4. P

Question ID : 264330167426  
Option 1 ID : 264330656678  
Option 2 ID : 264330656677  
Option 3 ID : 264330656676  
Option 4 ID : 264330656675  
Status : Answered  
Chosen Option : 2

Q.11 दी गई तालिका का अध्ययन कीजिए और नीचे दिए गए प्रश्न का उत्तर दीजिए।  
तालिका तीन दिनों में चार प्रिंटरों द्वारा प्रिंट किए गए पृष्ठों की संख्या दर्शाती है।

दिन	प्रिंटर			
	A	B	C	D
शुक्रवार	350	451	412	206
शनिवार	420	325	365	251
रविवार	238	198	258	326

शुक्रवार और रविवार को प्रिंटर D द्वारा एक साथ मिलाकर प्रिंट किए गए कुल पृष्ठों की संख्या और शुक्रवार और शनिवार को प्रिंटर A द्वारा एक साथ मिलाकर प्रिंट किए गए पृष्ठों की कुल संख्या के बीच क्रमशः अनुपात कितना है?

- Ans
- 1. 34 : 51
  - 2. 55 : 38
  - 3. 38 : 55
  - 4. 51 : 34

Question ID : 264330158263  
Option 1 ID : 264330620413  
Option 2 ID : 264330620411  
Option 3 ID : 264330620412  
Option 4 ID : 264330620414  
Status : Answered  
Chosen Option : 3

Q.12 यदि 4 पुरुष या 6 लड़के किसी कार्य को 20 दिन में पूरा कर सकते हैं, तो 6 पुरुष और 11 लड़के उसी कार्य को कितने दिन में पूरा कर सकते हैं?

- Ans
- 1. 6
  - 2. 7
  - 3. 8
  - 4. 5

Question ID : 26433082416  
Option 1 ID : 264330323498  
Option 2 ID : 264330323499  
Option 3 ID : 264330323500  
Option 4 ID : 264330323497  
Status : Answered  
Chosen Option : 1

Q.13 दी गई तालिका का अध्ययन कीजिए, और नीचे दिए गए प्रश्न का उत्तर दीजिए।  
तालिका निम्नलिखित वर्षों के लिए समूह में, खाद्यान्न की दैनिक खपत (ग्राम में) को दर्शाती है।

वर्ष	चावल	गेहूँ	मोटे अनाज	दलहन
1960-62	161	62	131	61
1970-72	197	81	116	64
1980-82	187	116	103	46
1990-92	189	124	101	44
2000-02	201	137	86	64

वर्षों के लिए समूह के दौरान, किस खाद्यान्न की खपत में क्रमिक वृद्धि हुई है?

- Ans
- 1. चावल
  - 2. मोटे अनाज
  - 3. गेहूँ
  - 4. दलहन

Question ID : 264330165467

Option 1 ID : 264330648947

Option 2 ID : 264330648949

Option 3 ID : 264330648948

Option 4 ID : 264330648950

Status : Answered

Chosen Option : 3

Q.14 एक दुकानदार एक वस्तु पर 15% की छूट देता है, और फिर भी 20% का लाभ कमाता है। दुकानदार उस वस्तु के लिए कितना भुगतान करेगा, जिसका अंकित मूल्य ₹7,200 है?

- Ans
- 1. ₹5,100
  - 2. ₹5,120
  - 3. ₹6,100
  - 4. ₹6,120

Question ID : 264330165164

Option 1 ID : 264330647755

Option 2 ID : 264330647757

Option 3 ID : 264330647758

Option 4 ID : 264330647756

Status : Answered

Chosen Option : 1

Q.15 एक व्यक्ति 8 km/h की चाल से चलते हुए 28 km की दूरी तय करता है। यदि वह 6 km/h की चाल से चलता है तो वह समान समय में कितनी दूरी (km में) तय करेगा?

- Ans
- 1. 36
  - 2. 32
  - 3. 21
  - 4. 28

Question ID : 264330121721

Option 1 ID : 264330477058

Option 2 ID : 264330477057

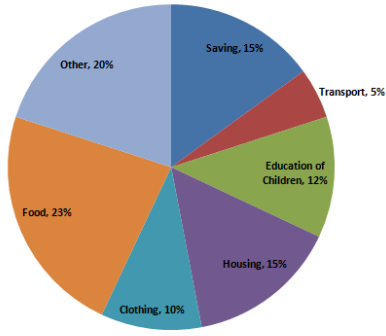
Option 3 ID : 264330477055

Option 4 ID : 264330477056

Status : Answered

Chosen Option : 3

**Q.16** दिए गए पाई-चार्ट का अध्ययन करें और निम्नलिखित प्रश्न का उत्तर दें।  
पाई-चार्ट में वर्ष 2021 के दौरान विभिन्न मदों में एक परिवार द्वारा किए गए खर्च और उनकी बचत को दर्शाया गया है।

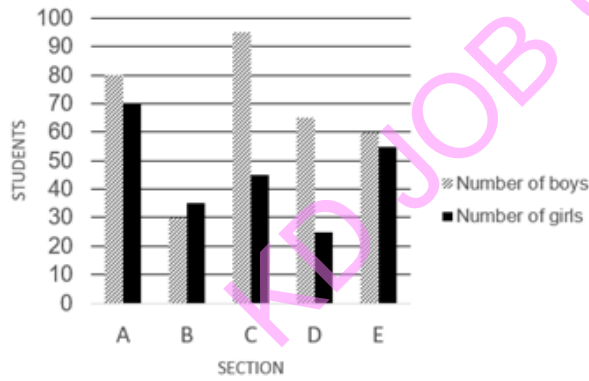


यदि परिवार की कुल आय ₹1,00,000 थी, तो बच्चों की शिक्षा पर कितना पैसा (₹ में) खर्च किया गया?  
Food - भोजन Clothing - वस्त्र Housing - आवास Education of children - बच्चों की शिक्षा Saving - बचत Other - अन्य  
Transport - परिवहन

- Ans**
- 1. 13500
  - 2. 13000
  - 3. 12500
  - 4. 12000

Question ID : 264330163477  
Option 1 ID : 264330641170  
Option 2 ID : 264330641169  
Option 3 ID : 264330641168  
Option 4 ID : 264330641167  
Status : Answered  
Chosen Option : 4

**Q.17** प्रत्येक अनुभाग में लड़के और लड़कियों की संख्या।  
दिए गए ग्राफ का अध्ययन कीजिए, और निम्नलिखित प्रश्न का उत्तर दीजिए।



Section = अनुभाग  
Student = छात्र  
Number of girls = लड़कियों की संख्या  
Number of boys = लड़कों की संख्या  
अनुभाग B में लड़कों की संख्या, अनुभाग E में लड़कियों की संख्या की लगभग कितने प्रतिशत है?

- Ans**
- 1. 25%
  - 2. 55%
  - 3. 45%
  - 4. 15%

Question ID : 264330165429  
Option 1 ID : 264330648796  
Option 2 ID : 264330648798  
Option 3 ID : 264330648797  
Option 4 ID : 264330648795  
Status : Answered  
Chosen Option : 2

Q.18 रमेश  $\frac{4}{5}$  समय में पारुल से आधा काम करता है। यदि रमेश और पारुल मिलकर कार्य को पूरा करने में 24 दिन लेते हैं, तो पारुल इसे पूरा करने में कितना समय लेगी?

- Ans
- 1. 41 दिन
  - 2. 37 दिन
  - 3. 39 दिन
  - 4. 38 दिन

Question ID : 264330118430  
Option 1 ID : 264330465123  
Option 2 ID : 264330465124  
Option 3 ID : 264330465122  
Option 4 ID : 264330465121  
Status : Not Answered  
Chosen Option : --

Q.19 16 और 20 का तृतीयानुपाती (third proportional) ज्ञात कीजिए।

- Ans
- 1. 25
  - 2. 26
  - 3. 23
  - 4. 24

Question ID : 264330145046  
Option 1 ID : 264330568441  
Option 2 ID : 264330568442  
Option 3 ID : 264330568439  
Option 4 ID : 264330568440  
Status : Answered  
Chosen Option : 1

KD JOB UPDATES

Q.20 निम्न तालिका चार वर्षों में चार कॉलेजों (A, B, C और D) से उत्तीर्ण होने वाले विद्यार्थियों का प्रतिशत दर्शाती है। तालिका का अध्ययन कीजिए और दिए गए प्रश्न का उत्तर दीजिए।

वर्ष	कॉलेज A	कॉलेज B	कॉलेज C	कॉलेज D
2019	68	78	56	78
2020	72	86	78	82
2021	78	91	82	85
2022	80	87	84	87

दिए गए चार वर्षों में किस कॉलेज में उत्तीर्ण विद्यार्थियों का औसत प्रतिशत सबसे कम है?

- Ans
- 1. कॉलेज B
  - 2. कॉलेज C
  - 3. कॉलेज A
  - 4. कॉलेज D

Question ID : 264330165159

Option 1 ID : 264330647736

Option 2 ID : 264330647737

Option 3 ID : 264330647735

Option 4 ID : 264330647738

Status : Answered

Chosen Option : 3

Q.21 यदि  $\sin \theta + \cos \theta = \frac{\sqrt{11}}{3}$  है, तो  $(\cos \theta - \sin \theta)$  का मान ज्ञात कीजिए।

- Ans
- 1.  $\frac{5}{3}$
  - 2.  $\frac{7}{3}$
  - 3.  $\frac{\sqrt{5}}{3}$
  - 4.  $\frac{\sqrt{7}}{3}$

Question ID : 264330158304

Option 1 ID : 264330620575

Option 2 ID : 264330620577

Option 3 ID : 264330620576

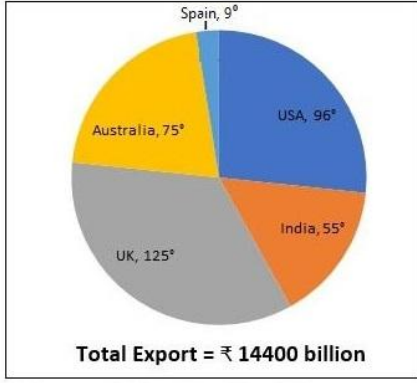
Option 4 ID : 264330620578

Status : Answered

Chosen Option : 3

Q.22 दिए गए पाई-चार्ट का अध्ययन कीजिए और निम्नलिखित प्रश्न का उत्तर दीजिए।

पाई-चार्ट, देश-वार वैश्विक निर्यात प्रस्तुति से संबंधित है।



Spain = स्पेन ,USA = यूएसए (USA) ,India = भारत ,UK = यूके (UK) ,Australia = ऑस्ट्रेलिया ,Total Export = ₹14400 billion , कुल निर्यात = ₹14400 बिलियन

यूके (UK) के निर्यात का मूल्य ऑस्ट्रेलिया के निर्यात का मूल्य से कितना अधिक (₹ बिलियन में) है?

- Ans
- ✓ 1. 2,000
  - ✗ 2. 1,440
  - ✗ 3. 2,550
  - ✗ 4. 1,500

Question ID : 264330158280

Option 1 ID : 264330620481

Option 2 ID : 264330620479

Option 3 ID : 264330620482

Option 4 ID : 264330620480

Status : Not Answered

Chosen Option : --

Q.23  $7\frac{5}{8} + \frac{5}{8}$  of  $184 \times 15 \div 5 - (?) = 0$  में (?) के स्थान पर क्या मान होना चाहिए?

- Ans
- ✗ 1.  $-352\frac{5}{8}$
  - ✗ 2.  $152\frac{1}{8}$
  - ✓ 3.  $352\frac{5}{8}$
  - ✗ 4.  $-152\frac{1}{8}$

Question ID : 26433074217

Option 1 ID : 264330290991

Option 2 ID : 264330290990

Option 3 ID : 264330290989

Option 4 ID : 264330290988

Status : Not Answered

Chosen Option : --

Q.24 P और Q के बीच हुए एक चुनाव में, P को कुल मतों के 40% मत प्राप्त होते हैं, और इस प्रकार वह 10 मतों से हार जाता है। मतों की कुल संख्या कितनी है?

- Ans
- 1. 80
  - 2. 90
  - 3. 70
  - 4. 50

Question ID : 264330145039  
Option 1 ID : 264330568412  
Option 2 ID : 264330568413  
Option 3 ID : 264330568411  
Option 4 ID : 264330568414  
Status : Answered  
Chosen Option : 4

Q.25 एक चुनाव में, अजय और मोहन 9000 श्रमिकों के एक व्यापार संघ में सचिव पद के लिए चुनाव लड़ रहे हैं। 80% श्रमिकों ने अपना मत दिया, जिसमें से 20% मत अमान्य पाए गए। अजय ने मोहन को 1152 मतों से हराया। अजय को कितने मत मिले?

- Ans
- 1. 3456
  - 2. 3546
  - 3. 4480
  - 4. 2304

Question ID : 264330103312  
Option 1 ID : 264330405553  
Option 2 ID : 264330405554  
Option 3 ID : 264330405556  
Option 4 ID : 264330405555  
Status : Answered  
Chosen Option : 1

Q.26 रमेश ने पहले चार वर्षों के लिए 5% वार्षिक दर से, अगले छह वर्षों के लिए 8% वार्षिक दर से, और दस वर्ष से आगे की अवधि के लिए 12% वार्षिक दर से कुछ धनराशि उधार ली। यदि बारह वर्षों की समाप्ति पर उसके द्वारा भुगतान किया गया कुल ब्याज ₹9,016 हो, तो रमेश द्वारा उधार ली गई धनराशि ज्ञात कीजिए।

- Ans
- 1. ₹9,816
  - 2. ₹9,800
  - 3. ₹9,016
  - 4. ₹9,616

Question ID : 264330165525  
Option 1 ID : 264330649182  
Option 2 ID : 264330649181  
Option 3 ID : 264330649179  
Option 4 ID : 264330649180  
Status : Answered  
Chosen Option : 2



Q.27 दो संख्याएं 4 : 3 के अनुपात में हैं। उनके महत्तम समापवर्तक (HCF) और लघुत्तम समापवर्तक (LCM) का गुणनफल 2700 है। संख्याओं के बीच का अंतर ज्ञात कीजिए।

- Ans  1. 105  
 2. 25  
 3. 15  
 4. 30

Question ID : 26433063440  
Option 1 ID : 264330248413  
Option 2 ID : 264330248415  
Option 3 ID : 264330248412  
Option 4 ID : 264330248414  
Status : Answered  
Chosen Option : 3

Q.28 वह छोटी से छोटी संख्या ज्ञात करें, जिसे 1351 में जोड़े जाने पर प्राप्त परिणामी योग 2, 4, 6 और 8 से पूर्णतः विभाजित हो जाए।

- Ans  1. 17  
 2. 11  
 3. 13  
 4. 15

Question ID : 26433075090  
Option 1 ID : 264330294451  
Option 2 ID : 264330294448  
Option 3 ID : 264330294449  
Option 4 ID : 264330294450  
Status : Answered  
Chosen Option : 1

Q.29 यदि  $\sin 2A = \cos 15^\circ$  है, तो A का सबसे छोटा धनात्मक मान क्या है?

- Ans  1.  $7.5^\circ$   
 2.  $37.5^\circ$   
 3.  $75^\circ$   
 4.  $47.5^\circ$

Question ID : 264330157745  
Option 1 ID : 264330618342  
Option 2 ID : 264330618339  
Option 3 ID : 264330618340  
Option 4 ID : 264330618341  
Status : Answered  
Chosen Option : 2

Q.30 दी गई तालिका का अध्ययन करें, और नीचे दिए गए प्रश्न का उत्तर दें।  
निम्न तालिका पाँच अलग-अलग संस्थाओं A, B, C, D और E में विभिन्न विभागों में कर्मचारियों की संख्या को दर्शाती है।

विभाग ↓ संस्था→	A	B	C	D	E
एचआर	1050	1015	976	888	1004
वित्त	1017	960	786	1025	963
विपणन	1382	1384	1275	1300	1290
उत्पादन	1542	1545	4550	1570	1580
लेखा	786	745	801	800	735
विधि	48	54	36	30	53
कुल	5825	5703	5424	5613	5625

किस संस्था में कर्मचारियों की संख्या न्यूनतम है?

- Ans  1. C  
 2. E  
 3. B  
 4. D

Question ID : 264330157720  
Option 1 ID : 264330618240  
Option 2 ID : 264330618242  
Option 3 ID : 264330618239  
Option 4 ID : 264330618241  
Status : Not Answered  
Chosen Option : --

Q.31 15 व्यक्तियों का औसत वजन तब 3.2 kg बढ़ जाता है, जब उनमें से 52 kg वजन वाले एक व्यक्ति के स्थान पर एक नया व्यक्ति आ जाता है। नए व्यक्ति का वजन \_\_\_\_\_ है।

- Ans  1. 52 kg  
 2. 48 kg  
 3. 96 kg  
 4. 100 kg

Question ID : 264330165641  
Option 1 ID : 264330649644  
Option 2 ID : 264330649643  
Option 3 ID : 264330649645  
Option 4 ID : 264330649646  
Status : Answered  
Chosen Option : 4

Q.32 यदि  $(48 \div 72 \times 3) - [15 \div 8 \times (40 - 32) - 10] + 2P = 6 \div 2$  है, तो P का मान ज्ञात कीजिए।

- Ans  1. 3  
 2. 1  
 3. 4  
 4. 2

Question ID : 26433071276  
Option 1 ID : 264330279530  
Option 2 ID : 264330279528  
Option 3 ID : 264330279531  
Option 4 ID : 264330279529  
Status : Answered  
Chosen Option : 1

Q.33 O और O' केंद्रों वाले दो वृत्तों में, दोनों वृत्तों के केंद्रों के बीच की दूरी 17 cm है। वृत्तों के बीच एक सीधी उभयनिष्ठ स्पर्शरेखा के संपर्क बिंदु P और Q हैं। यदि दोनों वृत्तों की त्रिज्याएं क्रमशः 7 cm और 15 cm हैं तो PQ की लंबाई किसके बराबर है?

- Ans
- 1. 17 cm
  - 2. 10 cm
  - 3. 22 cm
  - 4. 15 cm

Question ID : 264330165495  
Option 1 ID : 264330649062  
Option 2 ID : 264330649059  
Option 3 ID : 264330649060  
Option 4 ID : 264330649061  
Status : Answered  
Chosen Option : 3

Q.34 यदि  $x\left(5 - \frac{2}{x}\right) = \frac{5}{x}$  है, तो  $x^2 + \frac{1}{x^2}$  का मान कितना है?

- Ans
- 1.  $\frac{54}{23}$
  - 2.  $\frac{53}{27}$
  - 3.  $\frac{54}{25}$
  - 4.  $\frac{53}{28}$

Question ID : 264330157071  
Option 1 ID : 264330615658  
Option 2 ID : 264330615655  
Option 3 ID : 264330615657  
Option 4 ID : 264330615656  
Status : Answered  
Chosen Option : 3

Q.35

यदि  $A + \frac{1}{1 + \frac{1}{2 + \frac{1}{3}}} = \frac{9}{10}$  है, तो A का मान क्या होगा?

Ans

✗ 1.  $\frac{3}{10}$

✓ 2.  $\frac{1}{5}$

✗ 3.  $\frac{1}{10}$

✗ 4.  $\frac{2}{5}$

Question ID : 264330157770

Option 1 ID : 264330618441

Option 2 ID : 264330618440

Option 3 ID : 264330618439

Option 4 ID : 264330618442

Status : Answered

Chosen Option : 4

Q.36 यदि 60 लीटर दूध के एक मिश्रण में 40% दूध है, तो मिश्रण में दूध की मात्रा 60% करने के लिए इसमें और कितना दूध मिलाना होगा?

Ans

✓ 1. 30 लीटर

✗ 2. 25 लीटर

✗ 3. 35 लीटर

✗ 4. 20 लीटर

Question ID : 264330104487

Option 1 ID : 264330410250

Option 2 ID : 264330410251

Option 3 ID : 264330410252

Option 4 ID : 264330410249

Status : Answered

Chosen Option : 1

Q.37 8 cm त्रिज्या वाले वृत्त के एक त्रिज्यखंड, जो 4.6 cm लंबाई के एक चाप द्वारा बना है, का क्षेत्रफल \_\_\_\_\_ है।

Ans

✓ 1.  $18.4 \text{ cm}^2$

✗ 2.  $6.3 \text{ cm}^2$

✗ 3.  $9.2 \text{ cm}^2$

✗ 4.  $12.6 \text{ cm}^2$

Question ID : 264330165440

Option 1 ID : 264330648840

Option 2 ID : 264330648842

Option 3 ID : 264330648839

Option 4 ID : 264330648841

Status : Answered

Chosen Option : 4

Q.38 एक विक्रेता ने ₹850 अंकित मूल्य वाली एक पुस्तक क्रमशः 20% और 10% की क्रमिक छूटों पर खरीदी। उसने इसके परिवहन पर ₹55 खर्च किए, और पुस्तक को ₹980 में बेच दिया। उसका प्रतिशत लाभ (दो दशमलव स्थान तक पूर्णांकित) क्या होगा?

- Ans  1. 46.93%  
 2. 48.25%  
 3. 45.65%  
 4. 50.65%

Question ID : 264330158255  
Option 1 ID : 264330620380  
Option 2 ID : 264330620381  
Option 3 ID : 264330620379  
Option 4 ID : 264330620382  
Status : Answered  
Chosen Option : 2

Q.39 शांत जल में एक नाव की चाल 20 km/h है, जबकि नदी की धारा 8 km/h की चाल से बह रही है, और धारा के विपरीत दिशा में एक निश्चित दूरी को तय करने में लगा समय, धारा की दिशा में उतनी ही दूरी को तय करने में लगने वाले समय से 6 घंटे अधिक है। दूरी ज्ञात कीजिए।

- Ans  1. 126 km  
 2. 336 km  
 3. 125 km  
 4. 120 km

Question ID : 26433083049  
Option 1 ID : 264330326029  
Option 2 ID : 264330326032  
Option 3 ID : 264330326031  
Option 4 ID : 264330326030  
Status : Answered  
Chosen Option : 1

Q.40 ₹25,000 की राशि पर 12 प्रतिशत वार्षिक दर से तीन वर्ष बाद चक्रवृद्धि ब्याज कितना होगा, जबकि ब्याज वार्षिक रूप से चक्रवृद्धि होता है?

- Ans  1. ₹9,956.86  
 2. ₹10,520.00  
 3. ₹9,824.00  
 4. ₹10,123.20

Question ID : 264330145044  
Option 1 ID : 264330568432  
Option 2 ID : 264330568434  
Option 3 ID : 264330568431  
Option 4 ID : 264330568433  
Status : Answered  
Chosen Option : 1

Q.41 जीवन अकेले किसी कार्य को 42 दिनों में कर सकता है, जबकि ऋषि और जीवन मिलकर उसी कार्य को 27 दिनों में कर सकते हैं। ऋषि अकेले उसी कार्य को कितने दिनों में पूरा करेगा?

Ans

✗ 1.  $75\frac{4}{5}$

✗ 2.  $75\frac{1}{5}$

✗ 3.  $74\frac{3}{5}$

✓ 4.  $75\frac{3}{5}$

Question ID : 264330103285

Option 1 ID : 264330405448

Option 2 ID : 264330405446

Option 3 ID : 264330405445

Option 4 ID : 264330405447

Status : Answered

Chosen Option : 4

Q.42 यदि  $A + B = 90^\circ$  है, तो व्यंजक  $\frac{\cot A}{\cot B} + \cos^2 A + \cos^2 B$  किसके बराबर है?

Ans

✗ 1.  $\operatorname{cosec}^2 B$

✗ 2.  $\cot^2 B$

✗ 3.  $\cot^2 A$

✓ 4.  $\operatorname{cosec}^2 A$

Question ID : 264330157076

Option 1 ID : 264330615678

Option 2 ID : 264330615675

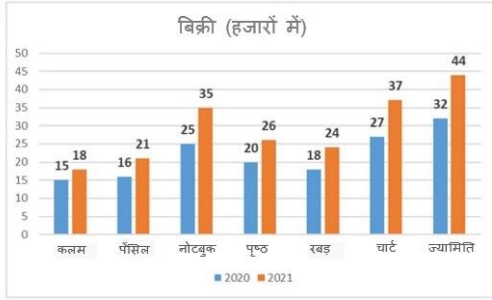
Option 3 ID : 264330615677

Option 4 ID : 264330615676

Status : Answered

Chosen Option : 4

Q.43 निम्न आरेख एक स्टेशनरी की दुकान की विभिन्न वस्तुओं की बिक्री को दर्शाता है। किस उत्पाद ने 2020 से 2021 तक उच्चतम प्रतिशत परिवर्तन दर्ज किया?



- Ans
- 1. चार्ट
  - 2. ज्यामिति
  - 3. नोटबुक
  - 4. पृष्ठ

Question ID : 26433081649

Option 1 ID : 264330320430

Option 2 ID : 264330320431

Option 3 ID : 264330320429

Option 4 ID : 264330320432

Status : Answered

Chosen Option : 3

Q.44 23 और 31 का तृतीयानुपाती (third proportional) ज्ञात करें।

- Ans
- 1.  $\frac{23}{961}$
  - 2.  $\frac{31}{23}$
  - 3.  $\frac{961}{23}$
  - 4.  $\frac{23}{31}$

Question ID : 264330103972

Option 1 ID : 264330408189

Option 2 ID : 264330408191

Option 3 ID : 264330408192

Option 4 ID : 264330408190

Status : Answered

Chosen Option : 3

Q.45 एक ट्रेडमिल का अंकित मूल्य ₹1,250 है। अंकित मूल्य पर 14% की छूट देने के बाद, एक दुकानदार इस पर 14% का लाभ अर्जित करता है। ट्रेडमिल का क्रय मूल्य (निकटतम रुपये में) ज्ञात करें।

- Ans  1. ₹845  
 2. ₹943  
 3. ₹1,043  
 4. ₹840

Question ID : 264330104352  
Option 1 ID : 264330409711  
Option 2 ID : 264330409710  
Option 3 ID : 264330409709  
Option 4 ID : 264330409712  
Status : Answered  
Chosen Option : 3

Q.46 एक समबाहु त्रिभुज का क्षेत्रफल  $4\sqrt{3}$  cm<sup>2</sup> है। त्रिभुज की भुजा (cm में) ज्ञात कीजिए।

- Ans  1. 4  
 2. 2  
 3.  $2\sqrt{3}$   
 4.  $\sqrt{3}$

Question ID : 264330157739  
Option 1 ID : 264330618318  
Option 2 ID : 264330618317  
Option 3 ID : 264330618316  
Option 4 ID : 264330618315  
Status : Answered  
Chosen Option : 1

Q.47 एक आयताकार हॉल के फर्श की लंबाई और चौड़ाई क्रमशः 126 फीट और 90 फीट है। उस बड़ी से बड़ी एकसमान आकार की वर्गाकार टाइलों से प्रत्येक का क्षेत्रफल (वर्ग फुट में) क्या होगा, जिसका उपयोग इस फर्श पर इस तरह से टाइल लगाने के लिए किया जा सकता है, कि फर्श का कोई भी हिस्सा खुला न रहे?

- Ans  1. 196  
 2. 256  
 3. 324  
 4. 484

Question ID : 264330103226  
Option 1 ID : 264330405209  
Option 2 ID : 264330405210  
Option 3 ID : 264330405212  
Option 4 ID : 264330405211  
Status : Answered  
Chosen Option : 1



Q.48 आदित्य ने वस्तु X को 23% के लाभ पर, और वस्तु Y को 13% की हानि पर बेचा। उसने पूरे सौदे में ₹180 का लाभ कमाया। यदि वस्तु X का मूल्य, वस्तु Y से ₹90 कम है, तो वस्तु Y का मूल्य (₹में) ज्ञात कीजिए।

- Ans
- 1. 2,050
  - 2. 2,100
  - 3. 2,020
  - 4. 2,007

Question ID : 264330131520  
Option 1 ID : 264330515185  
Option 2 ID : 264330515186  
Option 3 ID : 264330515184  
Option 4 ID : 264330515183  
Status : Not Answered  
Chosen Option : --

Q.49 मोम से बने 12 cm त्रिज्या वाले एक ठोस गोले को पिघलाया जाता है, और प्रत्येक 4 cm त्रिज्या वाले ठोस अर्धगोलों के रूप में ढाला जाता है। इस प्रकार बने ठोस अर्धगोलों की संख्या ज्ञात कीजिए।

- Ans
- 1. 27
  - 2. 14
  - 3. 28
  - 4. 54

Question ID : 264330145107  
Option 1 ID : 264330568683  
Option 2 ID : 264330568684  
Option 3 ID : 264330568686  
Option 4 ID : 264330568685  
Status : Answered  
Chosen Option : 4

Q.50 दो अभाज्य संख्याओं  $x$  और  $y$  ( $x > y$ ) का लघुत्तम समापवर्त्य (LCM) 533 है।  $4y - x$  का मान ज्ञात कीजिए।

- Ans
- 1. 21
  - 2. 23
  - 3. 11
  - 4. 18

Question ID : 26433064887  
Option 1 ID : 264330254140  
Option 2 ID : 264330254142  
Option 3 ID : 264330254141  
Option 4 ID : 264330254143  
Status : Not Answered  
Chosen Option : --

**Q.1** Select the most appropriate option that can substitute the underlined segment in the given sentence. If there is no need to substitute it, select 'No substitution'.  
I like to read books, but my brother prefers to watching movies.

- Ans**
- 1. on watching
  - 2. in watching
  - 3. No substitution
  - 4. to watch

Question ID : 264330137493  
Option 1 ID : 264330538592  
Option 2 ID : 264330538593  
Option 3 ID : 264330538594  
Option 4 ID : 264330538591  
Status : Answered  
Chosen Option : 4

**Q.2** Select the most appropriate idiom or phrase to complete the given sentence.

I like her because she never likes to make \_\_\_\_\_.

- Ans**
- 1. a bed of roses
  - 2. a slap on the wrist
  - 3. a quick buck
  - 4. a drop in the bucket

Question ID : 26433099136  
Option 1 ID : 264330389158  
Option 2 ID : 264330389159  
Option 3 ID : 264330389160  
Option 4 ID : 264330389157  
Status : Answered  
Chosen Option : 4

**Q.3** Select the most appropriate idiom to fill in the blank.

I was going to mention it, but it \_\_\_\_\_.

- Ans**
- 1. slipped my mind
  - 2. bore in mind
  - 3. brought to mind
  - 4. changed my mind

Question ID : 264330163336  
Option 1 ID : 264330640644  
Option 2 ID : 264330640645  
Option 3 ID : 264330640643  
Option 4 ID : 264330640646  
Status : Answered  
Chosen Option : 1

**Q.4** Select the option that can be used as a one-word substitute for the given group of words.

To criticise someone severely

- Ans  1. Chastise  
 2. Rate  
 3. Scoff  
 4. Remonstrate

Question ID : 26433088441  
Option 1 ID : 264330347350  
Option 2 ID : 264330347351  
Option 3 ID : 264330347352  
Option 4 ID : 264330347349  
Status : Answered  
Chosen Option : 4

**Q.5** Select the most appropriate synonym of the given word.  
Unequivocal

- Ans  1. Articulate  
 2. Unambiguous  
 3. Doubted  
 4. Complete

Question ID : 26433099853  
Option 1 ID : 264330392012  
Option 2 ID : 264330392009  
Option 3 ID : 264330392011  
Option 4 ID : 264330392010  
Status : Answered  
Chosen Option : 2

**Q.6** Select the most appropriate meaning of the underlined word.  
Saurabh imitates his boss perfectly.

- Ans  1. Copies  
 2. Admires  
 3. Worships  
 4. Hates

Question ID : 264330121039  
Option 1 ID : 264330474364  
Option 2 ID : 264330474363  
Option 3 ID : 264330474365  
Option 4 ID : 264330474366  
Status : Answered  
Chosen Option : 1

**Q.7** Select the most appropriate meaning of the given idiom.  
Keep count of

- Ans  1. To remember a total  
 2. To remind of a deadline  
 3. To act more politely  
 4. To accept an invitation

Question ID : 26433099653  
Option 1 ID : 264330391217  
Option 2 ID : 264330391219  
Option 3 ID : 264330391218  
Option 4 ID : 264330391220  
Status : Answered  
Chosen Option : 2

**Q.8** Select the sentence that has a spelling error.

- A- A fisherman, enfeebled with age, could no longer go out to sea so he began fishing in the river.  
B- Every morning he would go down to the river and sit there fishing the whole day long.  
C- In the evening, he would sell whatever he had caught, buy food for himself and go home.  
D- One hot afternoon, while he was bemoaning his fate, a large bird alited near him.

- Ans  1. Every morning he would go down to the river and sit there fishing the whole day long.  
 2. One hot afternoon, while he was bemoaning his fate, a large bird alited near him.  
 3. A fisherman, enfeebled with age, could no longer go out to sea so he began fishing in the river.  
 4. In the evening, he would sell whatever he had caught, buy food for himself and go home.

Question ID : 264330141563  
Option 1 ID : 264330554588  
Option 2 ID : 264330554590  
Option 3 ID : 264330554587  
Option 4 ID : 264330554589  
Status : Answered  
Chosen Option : 2

**Q.9** Select the most appropriate option that can substitute the underlined idiom/phrase in the given sentence.  
You cannot throw dust into my eyes.

- Ans  1. mislead or deceive me  
 2. terrify me  
 3. hurt me  
 4. abuse me

Question ID : 264330117252  
Option 1 ID : 264330461068  
Option 2 ID : 264330461067  
Option 3 ID : 264330461065  
Option 4 ID : 264330461066  
Status : Answered  
Chosen Option : 1

**Q.10** Choose the most appropriate meaning of the underlined phrase.  
Ram could not go to Delhi for vacation since he was banking on his arrears of pay which he did not get in time

- Ans
- 1. Calling on
  - 2. Relying on
  - 3. Sloping on
  - 4. Depending on his bank

Question ID : 264330137453  
Option 1 ID : 264330538436  
Option 2 ID : 264330538438  
Option 3 ID : 264330538435  
Option 4 ID : 264330538437  
Status : Answered  
Chosen Option : 4

**Q.11** Select the most appropriate option that can substitute the underlined segment in the given sentence. If there is no need to substitute it, select 'No substitution'.

This case is serious. You need to look into this matter; otherwise, the situation will get out of control soon.

- Ans
- 1. look after
  - 2. look at
  - 3. No substitution
  - 4. look up

Question ID : 26433072295  
Option 1 ID : 264330283486  
Option 2 ID : 264330283484  
Option 3 ID : 264330283487  
Option 4 ID : 264330283485  
Status : Answered  
Chosen Option : 2

**Q.12** In the following sentence, four words are underlined, out of which one word is incorrectly spelt. Identify the INCORRECTLY spelt word.  
Traffic accidents are increasing steadily, and large cities are plaged by traffic congestion. Worst of all is the air pollution caused by internal combustion engine, uninterruptedly.

- Ans
- 1. uninterruptedly
  - 2. combustion
  - 3. congestion
  - 4. plaged

Question ID : 264330132619  
Option 1 ID : 264330519574  
Option 2 ID : 264330519573  
Option 3 ID : 264330519572  
Option 4 ID : 264330519571  
Status : Answered  
Chosen Option : 1

**Q.13** Select the option that can be used as a one-word substitute for the given group of words.

To make a low continuous vibratory sound expressing contentment (of a cat).

- Ans
- 1. To buzz
  - 2. To roar
  - 3. To purr
  - 4. To meow

Question ID : 26433088972  
Option 1 ID : 264330349425  
Option 2 ID : 264330349426  
Option 3 ID : 264330349427  
Option 4 ID : 264330349428  
Status : Answered  
Chosen Option : 4

**Q.14** Select the grammatically correct sentence.

- Ans
- 1. The simple mistake which was committed by the boy haunted her for years.
  - 2. An simple mistake which was committed by the boy haunted her for years.
  - 3. A simple mistake which was committed by an boy haunted her for years.
  - 4. The simple mistake which was committed by an boy haunted her for years.

Question ID : 264330117215  
Option 1 ID : 264330460924  
Option 2 ID : 264330460921  
Option 3 ID : 264330460923  
Option 4 ID : 264330460922  
Status : Answered  
Chosen Option : 1

**Q.15** The following sentence has been split into four segments. Identify the segment that contains a grammatical error.  
My apartment / in Delhi / is situated / on second floor.

- Ans
- 1. is situated
  - 2. on second floor
  - 3. in Delhi
  - 4. My apartment

Question ID : 264330120572  
Option 1 ID : 264330472532  
Option 2 ID : 264330472533  
Option 3 ID : 264330472534  
Option 4 ID : 264330472531  
Status : Answered  
Chosen Option : 2

**Q.16** Select the option that can be used as a one-word substitute for the given group of words.

No longer used because something new has been invented

- Ans
- 1. Ornamental
  - 2. Ancient
  - 3. Obsolete
  - 4. Classic

Question ID : 26433088196  
Option 1 ID : 264330346379  
Option 2 ID : 264330346380  
Option 3 ID : 264330346377  
Option 4 ID : 264330346378  
Status : Answered  
Chosen Option : 3

**Q.17** Select the most appropriate option that can substitute the underlined segment in the given sentence.

O' Henry's short stories are read all over the world till now because they are pithy.

- Ans
- 1. concise and expressive
  - 2. elusive and unreal
  - 3. exaggerated yet short
  - 4. fascinating and lengthy

Question ID : 26433099879  
Option 1 ID : 264330392108  
Option 2 ID : 264330392105  
Option 3 ID : 264330392106  
Option 4 ID : 264330392107  
Status : Answered  
Chosen Option : 2

**Q.18** Select the most appropriate meaning of the given idiom.  
A plum job

- Ans
- 1. A rare job
  - 2. An easy and pleasant job
  - 3. A difficult job
  - 4. A job involving extensive travelling

Question ID : 264330134218  
Option 1 ID : 264330525867  
Option 2 ID : 264330525868  
Option 3 ID : 264330525869  
Option 4 ID : 264330525870  
Status : Answered  
Chosen Option : 4

**Q.19** Select the option that can be used as a one-word substitute for the given group of words.

Detailed list of goods dispatched with quantity and price to the purchaser.

- Ans
- 1. Sales
  - 2. Receipt
  - 3. Invoice
  - 4. Ledger

Question ID : 26433088807  
Option 1 ID : 264330348784  
Option 2 ID : 264330348782  
Option 3 ID : 264330348781  
Option 4 ID : 264330348783  
Status : Answered  
Chosen Option : 3

**Q.20** Select the most appropriate ANTONYM of the given word.

**Beneficent**

- Ans
- 1. Soft
  - 2. Lethargic
  - 3. Cruel
  - 4. Friendly

Question ID : 264330163396  
Option 1 ID : 264330640863  
Option 2 ID : 264330640866  
Option 3 ID : 264330640864  
Option 4 ID : 264330640865  
Status : Answered  
Chosen Option : 3

**Q.21** Select the most appropriate meaning of the given idiom.  
**Keep a straight face**

- Ans
- 1. Not laugh or change your expression even though you want to laugh
  - 2. Make more of an effort
  - 3. Get on extremely well with someone
  - 4. Become very confused

Question ID : 264330135997  
Option 1 ID : 264330532830  
Option 2 ID : 264330532827  
Option 3 ID : 264330532828  
Option 4 ID : 264330532829  
Status : Answered  
Chosen Option : 1



**Q.22** The following sentence has been split into four segments. Identify the segment that contains a grammatical error.

There is a spectrum / of seas around that / land which attracts / tourists of all aging.

- Ans
- 1. land which attracts
  - 2. tourists of all aging.
  - 3. of seas around that
  - 4. There is a spectrum

Question ID : 26433091958  
Option 1 ID : 264330361171  
Option 2 ID : 264330361172  
Option 3 ID : 264330361170  
Option 4 ID : 264330361169  
Status : Answered  
Chosen Option : 1

**Q.23** Select the most appropriate ANTONYM of the given word.

**Contempt**

- Ans
- 1. Regard
  - 2. Immoral
  - 3. Deny
  - 4. Mockery

Question ID : 264330163362  
Option 1 ID : 264330640742  
Option 2 ID : 264330640739  
Option 3 ID : 264330640741  
Option 4 ID : 264330640740  
Status : Answered  
Chosen Option : 1

**Q.24** Select the most appropriate meaning of the underlined word.  
We shouldn't blame or envy anyone.

- Ans
- 1. Curse
  - 2. Reap
  - 3. Love
  - 4. Jealousy

Question ID : 264330121038  
Option 1 ID : 264330474360  
Option 2 ID : 264330474359  
Option 3 ID : 264330474361  
Option 4 ID : 264330474362  
Status : Answered  
Chosen Option : 4

**Q.25** Select the most appropriate one-word substitution of the given group of words.

A state of intense happiness and self-confidence.

- Ans
- 1. Intoxication
  - 2. Touché
  - 3. Euphoria
  - 4. Oblivion

Question ID : 26433090855  
Option 1 ID : 264330356830  
Option 2 ID : 264330356829  
Option 3 ID : 264330356832  
Option 4 ID : 264330356831  
Status : Answered  
Chosen Option : 3

**Q.26** Select the most appropriate synonym of the word 'disclosed' in the given sentence and choose the correct option.

The linguist's analysis of the language revealed patterns and structures that were previously unknown.

- Ans
- 1. Patterns
  - 2. Linguist
  - 3. Unknown
  - 4. Revealed

Question ID : 264330163536  
Option 1 ID : 264330641401  
Option 2 ID : 264330641399  
Option 3 ID : 264330641402  
Option 4 ID : 264330641400  
Status : Answered  
Chosen Option : 2

**Q.27** Select the most appropriate one-word substitution of the given group of words.

A pretence of having a virtuous character, moral or religious beliefs or principles, etc., that one does not really possess.

- Ans
- 1. Hypocrisy
  - 2. Naivety
  - 3. Shrewdness
  - 4. Gullibility

Question ID : 26433090854  
Option 1 ID : 264330356826  
Option 2 ID : 264330356828  
Option 3 ID : 264330356825  
Option 4 ID : 264330356827  
Status : Answered  
Chosen Option : 3

**Q.28** Select the most appropriate synonym of the given word.

**Benevolent**

- Ans**  1. Innocent  
 2. Cruel  
 3. Wicked  
 4. Generous

Question ID : 264330163357  
Option 1 ID : 264330640721  
Option 2 ID : 264330640722  
Option 3 ID : 264330640720  
Option 4 ID : 264330640719  
Status : Answered  
Chosen Option : 4

**Q.29** Select the most appropriate phrasal verb to fill in the blank.  
Though Pradeep \_\_\_\_\_ for Jamaica, he landed up in Nigeria.

- Ans**  1. set about  
 2. set out  
 3. set aside  
 4. set up

Question ID : 26433084919  
Option 1 ID : 264330333398  
Option 2 ID : 264330333399  
Option 3 ID : 264330333400  
Option 4 ID : 264330333397  
Status : Answered  
Chosen Option : 2

**Q.30** Select the INCORRECTLY spelt word.

- Ans**  1. Gllidder  
 2. Ladybug  
 3. Airplane  
 4. Helicopter

Question ID : 26433089011  
Option 1 ID : 264330349582  
Option 2 ID : 264330349584  
Option 3 ID : 264330349581  
Option 4 ID : 264330349583  
Status : Answered  
Chosen Option : 3

**Q.31** In the following sentence, four words are underlined, out of which one word is incorrectly spelt. Identify the INCORRECTLY spelt word.  
The ruins of many structures that still stand tall in their granduer are testimony to the fact that Mewar was not only the land of the courageous .

- Ans**
- 1. granduer
  - 2. ruins
  - 3. testimony
  - 4. courageous

Question ID : 264330123786  
Option 1 ID : 264330485081  
Option 2 ID : 264330485080  
Option 3 ID : 264330485082  
Option 4 ID : 264330485083  
Status : Answered  
Chosen Option : 1

**Q.32** Select the most appropriate meaning of the given idiom.

**Grasping at straws**

- Ans**
- 1. Trying to find the best way to compete with others when nothing you choose is likely to work
  - 2. Trying to find some way to succeed when nothing you choose is likely to work
  - 3. Trying to find some way to succeed when you see others are also doing the same
  - 4. Trying to find manipulative ways to succeed

Question ID : 264330163431  
Option 1 ID : 264330641001  
Option 2 ID : 264330641002  
Option 3 ID : 264330640999  
Option 4 ID : 264330641000  
Status : Answered  
Chosen Option : 1

**Q.33** Select the most appropriate ANTONYM of the given word.  
**Glad**

- Ans**
- 1. Loyal
  - 2. Sad
  - 3. Keen
  - 4. Pleased

Question ID : 264330164170  
Option 1 ID : 264330643934  
Option 2 ID : 264330643932  
Option 3 ID : 264330643933  
Option 4 ID : 264330643931  
Status : Answered  
Chosen Option : 2

**Q.34** Identify the option that rectifies the spelling of the incorrectly spelt word in the given sentence.

The disadvantages of listening to music at a loud volume include loss of hearing.

- Ans
- 1. Lissening
  - 2. Volume
  - 3. Heering
  - 4. Lose

Question ID : 26433089016  
Option 1 ID : 264330349601  
Option 2 ID : 264330349603  
Option 3 ID : 264330349604  
Option 4 ID : 264330349602  
Status : Answered  
Chosen Option : 3

**Q.35** Select the most appropriate meaning of the given idiom.

Face the music

- Ans
- 1. To be cheated by someone you trust
  - 2. To accept punishment for some mistake which you have done
  - 3. To work every possible way to succeed
  - 4. To have the problems with money

Question ID : 26433092077  
Option 1 ID : 264330361631  
Option 2 ID : 264330361629  
Option 3 ID : 264330361632  
Option 4 ID : 264330361630  
Status : Answered  
Chosen Option : 2

**Q.36** Select the option that can be used as a one-word substitute for the given group of words.

Minimum people needed for a meeting

- Ans
- 1. Quorum
  - 2. Addendum
  - 3. Decorum
  - 4. Forum

Question ID : 26433073673  
Option 1 ID : 264330288835  
Option 2 ID : 264330288834  
Option 3 ID : 264330288832  
Option 4 ID : 264330288833  
Status : Answered  
Chosen Option : 1

Q.37 Select the most appropriate synonym of the given word.

Vulnerable

- Ans  1. Delectable  
 2. Amiable  
 3. Guarded  
 4. Susceptible

Question ID : 264330163394  
Option 1 ID : 264330640856  
Option 2 ID : 264330640855  
Option 3 ID : 264330640858  
Option 4 ID : 264330640857  
Status : Answered  
Chosen Option : 2

Q.38 Select the most appropriate ANTONYM of the given word.  
Specific

- Ans  1. Random  
 2. Lawful  
 3. Topple  
 4. Stroll

Question ID : 264330164273  
Option 1 ID : 264330644315  
Option 2 ID : 264330644318  
Option 3 ID : 264330644317  
Option 4 ID : 264330644316  
Status : Answered  
Chosen Option : 1

Q.39 Select the most appropriate idiom that can substitute the underlined segment in the given sentence.

He made a mess of that bookcase he was supposed to be repairing.

- Ans  1. brought a dog's breast  
 2. made a pig's ear  
 3. made a clean breast  
 4. had a butcher hook

Question ID : 264330164573  
Option 1 ID : 264330645481  
Option 2 ID : 264330645480  
Option 3 ID : 264330645482  
Option 4 ID : 264330645479  
Status : Answered  
Chosen Option : 3

**Q.40** Select the option that can be used as a one-word substitute for the given group of words.

**Huge fire for celebration**

- Ans**  1. Bonfire  
 2. Agenda  
 3. Campaign  
 4. Crossfire

Question ID : 26433088756  
Option 1 ID : 264330348577  
Option 2 ID : 264330348580  
Option 3 ID : 264330348578  
Option 4 ID : 264330348579  
Status : Answered  
Chosen Option : 4

**Comprehension:**

In the following passage, some words have been deleted. Read the passage carefully and select the most appropriate option to fill in each blank.

When another old cave is discovered in the south of France, it is not (1)\_\_\_\_\_ in news. Rather, it is an ordinary event. Such discoveries are so (2)\_\_\_\_\_ these days that hardly anybody pays heed to them. However, when the Lascaux cave complex was discovered in 1940, the world was (3)\_\_\_\_\_. Painted directly on its walls were hundreds of scenes showing how people lived thousands of years ago. The scenes show people hunting animals, such as bison or wild cats. Other images (4)\_\_\_\_\_ birds and, most noticeably, horses, which appear in more than 300 wall images, by far (5)\_\_\_\_\_ all other animals.

**SubQuestion No : 41**

**Q.41** Select the most appropriate option to fill in blank number 1.

- Ans**  1. suitably  
 2. merrily  
 3. usually  
 4. nearly

Question ID : 264330163292  
Option 1 ID : 264330640467  
Option 2 ID : 264330640468  
Option 3 ID : 264330640470  
Option 4 ID : 264330640469  
Status : Answered  
Chosen Option : 2

**Comprehension:**

In the following passage, some words have been deleted. Read the passage carefully and select the most appropriate option to fill in each blank.

When another old cave is discovered in the south of France, it is not (1)\_\_\_\_\_ in news. Rather, it is an ordinary event. Such discoveries are so (2)\_\_\_\_\_ these days that hardly anybody pays heed to them. However, when the Lascaux cave complex was discovered in 1940, the world was (3)\_\_\_\_\_. Painted directly on its walls were hundreds of scenes showing how people lived thousands of years ago. The scenes show people hunting animals, such as bison or wild cats. Other images (4)\_\_\_\_\_ birds and, most noticeably, horses, which appear in more than 300 wall images, by far (5)\_\_\_\_\_ all other animals.

**SubQuestion No : 42**

**Q.42** Select the most appropriate option to fill in blank number 2.

- Ans  1. ghastly  
 2. frequent  
 3. delusional  
 4. disorderly

Question ID : 264330163293

Option 1 ID : 264330640474

Option 2 ID : 264330640472

Option 3 ID : 264330640473

Option 4 ID : 264330640471

Status : Answered

Chosen Option : 2

**Comprehension:**

In the following passage, some words have been deleted. Read the passage carefully and select the most appropriate option to fill in each blank.

When another old cave is discovered in the south of France, it is not (1)\_\_\_\_\_ in news. Rather, it is an ordinary event. Such discoveries are so (2)\_\_\_\_\_ these days that hardly anybody pays heed to them. However, when the Lascaux cave complex was discovered in 1940, the world was (3)\_\_\_\_\_. Painted directly on its walls were hundreds of scenes showing how people lived thousands of years ago. The scenes show people hunting animals, such as bison or wild cats. Other images (4)\_\_\_\_\_ birds and, most noticeably, horses, which appear in more than 300 wall images, by far (5)\_\_\_\_\_ all other animals.

**SubQuestion No : 43**

**Q.43** Select the most appropriate option to fill in blank number 3.

- Ans  1. baffled  
 2. encouraged  
 3. overthrown  
 4. crushed

Question ID : 264330163294

Option 1 ID : 264330640475

Option 2 ID : 264330640477

Option 3 ID : 264330640476

Option 4 ID : 264330640478

Status : Answered

Chosen Option : 2



**Comprehension:**

In the following passage, some words have been deleted. Read the passage carefully and select the most appropriate option to fill in each blank.

When another old cave is discovered in the south of France, it is not (1)\_\_\_\_\_ in news. Rather, it is an ordinary event. Such discoveries are so (2)\_\_\_\_\_ these days that hardly anybody pays heed to them. However, when the Lascaux cave complex was discovered in 1940, the world was (3)\_\_\_\_\_. Painted directly on its walls were hundreds of scenes showing how people lived thousands of years ago. The scenes show people hunting animals, such as bison or wild cats. Other images (4)\_\_\_\_\_ birds and, most noticeably, horses, which appear in more than 300 wall images, by far (5)\_\_\_\_\_ all other animals.

**SubQuestion No : 44**

**Q.44** Select the most appropriate option to fill in blank number 4.

- Ans  1. depict  
 2. determine  
 3. require  
 4. imprint

Question ID : 264330163295

Option 1 ID : 264330640481

Option 2 ID : 264330640480

Option 3 ID : 264330640479

Option 4 ID : 264330640482

Status : Answered

Chosen Option : 4

**Comprehension:**

In the following passage, some words have been deleted. Read the passage carefully and select the most appropriate option to fill in each blank.

When another old cave is discovered in the south of France, it is not (1)\_\_\_\_\_ in news. Rather, it is an ordinary event. Such discoveries are so (2)\_\_\_\_\_ these days that hardly anybody pays heed to them. However, when the Lascaux cave complex was discovered in 1940, the world was (3)\_\_\_\_\_. Painted directly on its walls were hundreds of scenes showing how people lived thousands of years ago. The scenes show people hunting animals, such as bison or wild cats. Other images (4)\_\_\_\_\_ birds and, most noticeably, horses, which appear in more than 300 wall images, by far (5)\_\_\_\_\_ all other animals.

**SubQuestion No : 45**

**Q.45** Select the most appropriate option to fill in blank number 5.

- Ans  1. outlasting  
 2. outsourcing  
 3. outreaching  
 4. outnumbering

Question ID : 264330163296

Option 1 ID : 264330640485

Option 2 ID : 264330640483

Option 3 ID : 264330640484

Option 4 ID : 264330640486

Status : Answered

Chosen Option : 3

**Comprehension:**

Read the given passage and answer the questions that follow.

Climate policy must now put health at the centre and promote climate change mitigation policies that bring health benefits simultaneously. Health-focused climate policy would help bring about a planet that has cleaner air, more abundant and safer freshwater and food, more effective and fairer health and social protection systems and, as a result, healthier people. Investment in clean energy will yield health gains that repay those investments twice over. There are proven interventions able to reduce emissions of short-lived climate pollutants, for instance applying higher standards for vehicle emissions, which have been calculated to save approximately 2.4 million lives per year, through improved air quality and reduce global warming by about 0.5°C by 2050. The cost of renewable sources of energy has decreased significantly in the last few years, and solar energy is now cheaper than coal or gas in most major economies.

**SubQuestion No : 46**

**Q.46** Which of the following represents the structure of the passage?

- Ans
- 1. Definition
  - 2. Chronology
  - 3. Problem-solution
  - 4. Critique

Question ID : 264330136029

Option 1 ID : 264330532935

Option 2 ID : 264330532936

Option 3 ID : 264330532938

Option 4 ID : 264330532937

Status : Answered

Chosen Option : 3

**Comprehension:**

Read the given passage and answer the questions that follow.

Climate policy must now put health at the centre and promote climate change mitigation policies that bring health benefits simultaneously. Health-focused climate policy would help bring about a planet that has cleaner air, more abundant and safer freshwater and food, more effective and fairer health and social protection systems and, as a result, healthier people. Investment in clean energy will yield health gains that repay those investments twice over. There are proven interventions able to reduce emissions of short-lived climate pollutants, for instance applying higher standards for vehicle emissions, which have been calculated to save approximately 2.4 million lives per year, through improved air quality and reduce global warming by about 0.5°C by 2050. The cost of renewable sources of energy has decreased significantly in the last few years, and solar energy is now cheaper than coal or gas in most major economies.

**SubQuestion No : 47**

**Q.47** Which of the following most accurately states the central idea of the passage?

- Ans
- 1. Pollution
  - 2. Greenhouse gases
  - 3. Fossil fuels
  - 4. Climate policy for health

Question ID : 264330136026

Option 1 ID : 264330532923

Option 2 ID : 264330532924

Option 3 ID : 264330532926

Option 4 ID : 264330532925

Status : Answered

Chosen Option : 4

**Comprehension:**

Read the given passage and answer the questions that follow.

Climate policy must now put health at the centre and promote climate change mitigation policies that bring health benefits simultaneously. Health-focused climate policy would help bring about a planet that has cleaner air, more abundant and safer freshwater and food, more effective and fairer health and social protection systems and, as a result, healthier people. Investment in clean energy will yield health gains that repay those investments twice over. There are proven interventions able to reduce emissions of short-lived climate pollutants, for instance applying higher standards for vehicle emissions, which have been calculated to save approximately 2.4 million lives per year, through improved air quality and reduce global warming by about 0.5°C by 2050. The cost of renewable sources of energy has decreased significantly in the last few years, and solar energy is now cheaper than coal or gas in most major economies.

**SubQuestion No : 48****Q.48 What is the ANTONYM for the word 'promote', from the passage?**

- Ans
- 1. Conduct
  - 2. Obstruct
  - 3. Exclude
  - 4. Invade

Question ID : 264330136028

Option 1 ID : 264330532932

Option 2 ID : 264330532931

Option 3 ID : 264330532934

Option 4 ID : 264330532933

Status : Answered

Chosen Option : 2

**Comprehension:**

Read the given passage and answer the questions that follow.

Climate policy must now put health at the centre and promote climate change mitigation policies that bring health benefits simultaneously. Health-focused climate policy would help bring about a planet that has cleaner air, more abundant and safer freshwater and food, more effective and fairer health and social protection systems and, as a result, healthier people. Investment in clean energy will yield health gains that repay those investments twice over. There are proven interventions able to reduce emissions of short-lived climate pollutants, for instance applying higher standards for vehicle emissions, which have been calculated to save approximately 2.4 million lives per year, through improved air quality and reduce global warming by about 0.5°C by 2050. The cost of renewable sources of energy has decreased significantly in the last few years, and solar energy is now cheaper than coal or gas in most major economies.

**SubQuestion No : 49****Q.49 What is the ANTONYM for the word 'intervention', from the passage?**

- Ans
- 1. Specific
  - 2. Data
  - 3. Non-involvement
  - 4. Evidence

Question ID : 264330136030

Option 1 ID : 264330532939

Option 2 ID : 264330532940

Option 3 ID : 264330532941

Option 4 ID : 264330532942

Status : Answered

Chosen Option : 3

**Comprehension:**

Read the given passage and answer the questions that follow.

Climate policy must now put health at the centre and promote climate change mitigation policies that bring health benefits simultaneously. Health-focused climate policy would help bring about a planet that has cleaner air, more abundant and safer freshwater and food, more effective and fairer health and social protection systems and, as a result, healthier people. Investment in clean energy will yield health gains that repay those investments twice over. There are proven interventions able to reduce emissions of short-lived climate pollutants, for instance applying higher standards for vehicle emissions, which have been calculated to save approximately 2.4 million lives per year, through improved air quality and reduce global warming by about 0.5°C by 2050. The cost of renewable sources of energy has decreased significantly in the last few years, and solar energy is now cheaper than coal or gas in most major economies.

**SubQuestion No : 50**

**Q.50 Which is the best description of the tone of the passage?**

**Ans**  1. Humanistic

2. Technical

3. Cynical

4. Biased

Question ID : 264330136027

Option 1 ID : 264330532930

Option 2 ID : 264330532929

Option 3 ID : 264330532928

Option 4 ID : 264330532927

Status : Answered

Chosen Option : 1

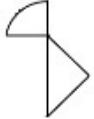
KD JOB UPDATES

**Sub Inspector in Delhi Police and Central Armed Police Forces Examination 2023**  
**Paper I**

Roll Number	<b>KD JOB UPDATES</b>
Candidate Name	<b>KD JOB UPDATES</b>
Venue Name	iON Dizital Zone Faridabad
Exam Date	03/10/2023
Exam Time	9:00 AM - 11:00 AM
Subject	SICPO Paper I 2023

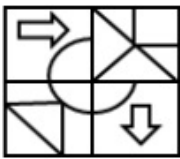
Section : General Intelligence and Reasoning

Q.1 उस विकल्प का चयन कीजिए जिसमें दी गई आकृति सन्निहित है (घुमाने की अनुमति नहीं है)।

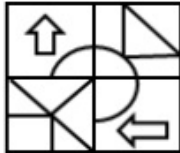


Ans

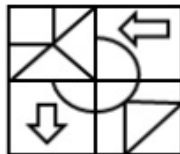
✗ 1.



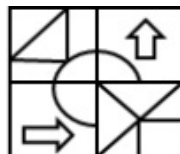
✗ 2.



✗ 3.



✓ 4.



KD JOB UPDATES

Question ID : 264330126081

Option 1 ID : 264330493998

Option 2 ID : 264330493997

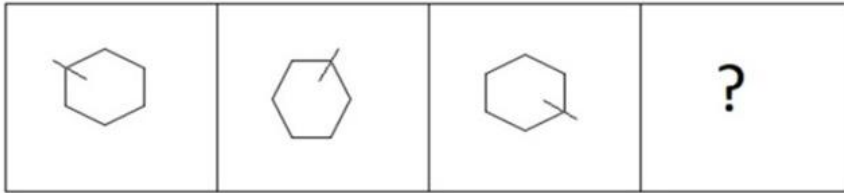
Option 3 ID : 264330493996

Option 4 ID : 264330493999

Status : Answered

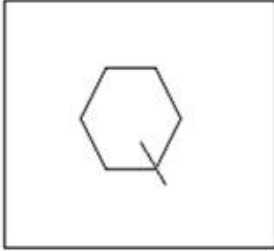
Chosen Option : 4

Q.2 निम्नलिखित आकृति श्रृंखला में आगे आने वाली आकृति का चयन करें।

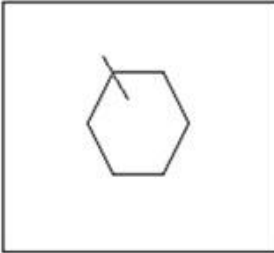


Ans

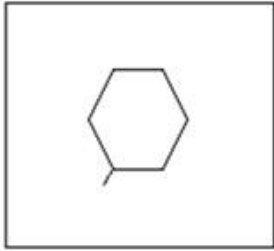
✗ 1.



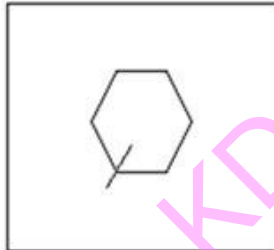
✗ 2.



✗ 3.



✓ 4.



Question ID : 26433087076

Option 1 ID : 264330341947

Option 2 ID : 264330341948

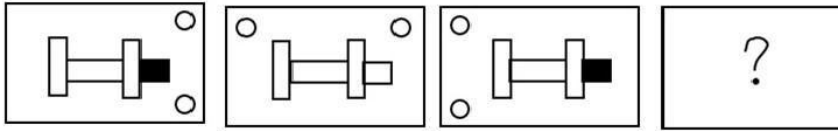
Option 3 ID : 264330341946

Option 4 ID : 264330341945

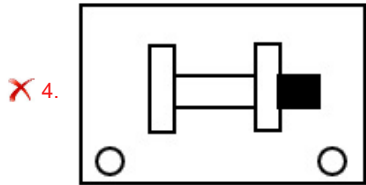
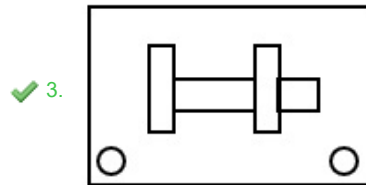
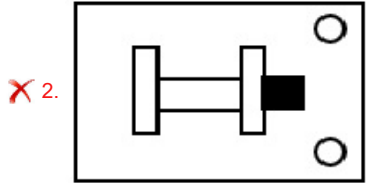
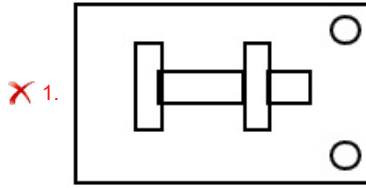
Status : Answered

Chosen Option : 4

Q.3 उस आकृति का चयन करें जो निम्न आकृति-शृंखला में प्रश्नचिह्न (?) के स्थान पर आएगी।



Ans



Question ID : 26433065985  
 Option 1 ID : 264330258486  
 Option 2 ID : 264330258487  
 Option 3 ID : 264330258484  
 Option 4 ID : 264330258485  
 Status : Answered  
 Chosen Option : 3

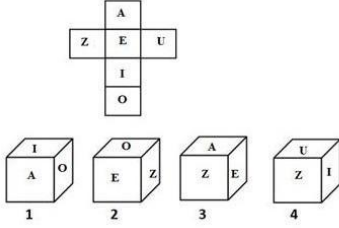
Q.4 यदि '+' का अर्थ 'x' है, 'x' का अर्थ '-' है, '-' का अर्थ '+' है और '+' का अर्थ '+' है, तो दिए गए समीकरण में प्रश्नवाचक चिह्न (?) के स्थान पर क्या आएगा?  
 $250 - 10 + 10 \times 5 \div 2 = ?$

- Ans
- ✗ 1. 167
  - ✓ 2. 247
  - ✗ 3. 320
  - ✗ 4. 234

Question ID : 264330114250  
 Option 1 ID : 264330449086  
 Option 2 ID : 264330449087  
 Option 3 ID : 264330449088  
 Option 4 ID : 264330449085  
 Status : Answered  
 Chosen Option : 2

Q.5 यदि दी गई शीट को मोड़कर एक घन बनाया जाए, तो निम्न में से कौन सी आकृति/आकृतियां बनना संभव है?

(अक्षर केवल घनों के फलकों को इंगित करने के लिए दिए गए हैं)



- Ans
- 1. केवल 1, 2 और 4
  - 2. केवल 1 और 2
  - 3. केवल 3
  - 4. केवल 2 और 3

Question ID : 26433065678

Option 1 ID : 264330257275

Option 2 ID : 264330257272

Option 3 ID : 264330257274

Option 4 ID : 264330257273

Status : Answered

Chosen Option : 3

Q.6 यदि '+' का अर्थ '÷', '-' का अर्थ '+', 'x' का अर्थ '-' और '÷' का अर्थ 'x' है, तो निम्नलिखित व्यंजक का मान क्या होगा?

$$[(14 \times 6) - (4 \div 3)] + (6 - 4) \div 3$$

- Ans
- 1. 1
  - 2. 9
  - 3. 3
  - 4. 6

Question ID : 264330129643

Option 1 ID : 264330507938

Option 2 ID : 264330507941

Option 3 ID : 264330507939

Option 4 ID : 264330507940

Status : Answered

Chosen Option : 4

Q.7 यदि '+' का अर्थ '-', '-' का अर्थ 'x', 'x' का अर्थ '÷', '÷' का अर्थ '+' हो, तो निम्नलिखित समीकरण में प्रश्न चिह्न (?) के स्थान पर क्या आएगा?

$$137 \div 56 \times 7 - 6 + 31 = ?$$

- Ans
- 1. 149
  - 2. 154
  - 3. 145
  - 4. 163

Question ID : 264330126058

Option 1 ID : 264330493905

Option 2 ID : 264330493907

Option 3 ID : 264330493904

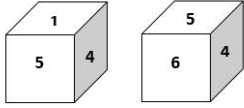
Option 4 ID : 264330493906

Status : Answered

Chosen Option : 2



**Q.8** एक ही पासे की दो अलग-अलग स्थितियाँ दिखाई गई हैं, जिनमें छः फलकों को 1 से 6 तक संख्यांकित किया गया है। उस संख्या का चयन करें, जो '1' को दर्शाने वाले फलक के विपरीत फलक पर होगी।



**Ans**  1. 4

2. 6

3. 3

4. 5

Question ID : 26433058063

Option 1 ID : 264330227237

Option 2 ID : 264330227239

Option 3 ID : 264330227236

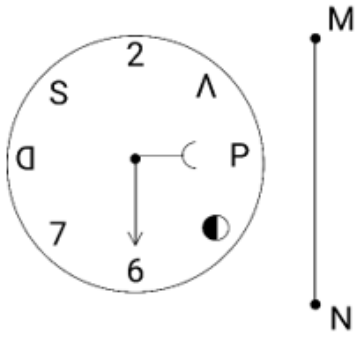
Option 4 ID : 264330227238

Status : Answered

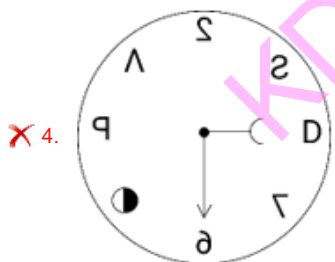
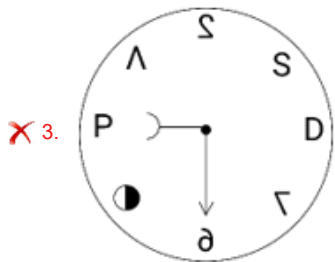
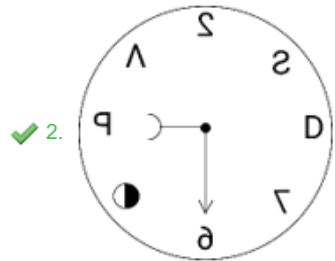
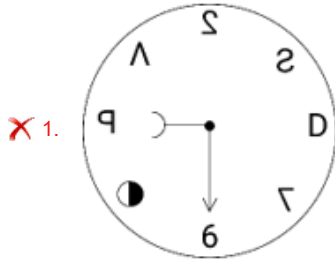
Chosen Option : 2

KD JOB UPDATES

Q.9 यदि दर्पण को नीचे दिखाए गए अनुसार रेखा MN पर रखा गया हो, तो दी गई आकृति के सही दर्पण प्रतिबिम्ब का चयन कीजिए।



Ans



Question ID : 264330170165

Option 1 ID : 264330667337

Option 2 ID : 264330667338

Option 3 ID : 264330667335

Option 4 ID : 264330667336

Status : Answered

Chosen Option : 2

Q.10 निम्नलिखित में से कौन-सी संख्या दी गई श्रृंखला में प्रश्न-चिह्न (?) का स्थान लेगी?  
-1/729, -1/81, -1/9, ?

- Ans
- 1. 1
  - 2. -1/3
  - 3. -1
  - 4. 1/3

Question ID : 26433092495

Option 1 ID : 264330363269

Option 2 ID : 264330363271

Option 3 ID : 264330363270

Option 4 ID : 264330363272

Status : Answered

Chosen Option : 3

Q.11 रोहित, बिंदु A से उत्तर की ओर 3 km ड्राइव करता है। वह बाएं मुड़ता है, और 4 km ड्राइव करता है। वह फिर से बाएं मुड़ता है, और 6 km ड्राइव करता है। अंत में, वह बाएं मुड़ता है, और बिंदु B तक पहुँचने के लिए 4 km ड्राइव करता है। फिर से बिंदु A पर पहुँचने के लिए उसे कितनी दूर और किस दिशा में ड्राइव करना चाहिए?

- Ans
- 1. 3 km उत्तर की ओर
  - 2. 4 km दक्षिण की ओर
  - 3. 3 km पूर्व की ओर
  - 4. 2 km पश्चिम की ओर

Question ID : 26433068272

Option 1 ID : 264330267601

Option 2 ID : 264330267600

Option 3 ID : 264330267603

Option 4 ID : 264330267602

Status : Answered

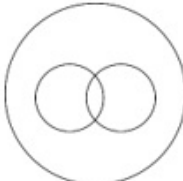


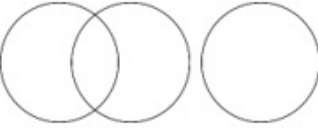
Chosen Option : 1

KD JOB UPDATES

Q.12 उस वेन आरेख का चयन करें, जो निम्नलिखित वर्गों के बीच के संबंध को सर्वोत्तम ढंग से दर्शाता है।

विद्युत उपकरण, रेफ्रिजरेटर, फ्रीजर

Ans

- ✓ 1. 
- ✗ 2. 
- ✗ 3. 
- ✗ 4. 

Question ID : 264330132924

Option 1 ID : 264330520755

Option 2 ID : 264330520757

Option 3 ID : 264330520758

Option 4 ID : 264330520756

Status : Answered

Chosen Option : 1

Q.13 एक निश्चित कूट भाषा में "VATT" को "65" और "STOLK" को "79" के रूप में कूटबद्ध किया जाता है। उसी कूट भाषा में "GENEROUS" को किस प्रकार कूटबद्ध किया जाएगा?

- Ans ✓ 1. 106
- ✗ 2. 216
- ✗ 3. 116
- ✗ 4. 204

Question ID : 26433079048

Option 1 ID : 264330310197

Option 2 ID : 264330310199

Option 3 ID : 264330310198

Option 4 ID : 264330310196

Status : Answered

Chosen Option : 1

Q.14 यदि निम्नलिखित आकृति श्रृंखला को जारी रखा जाए, तो दिए गए विकल्पों में से कौन-सी आकृति प्रश्नवाचक चिन्ह (?) को प्रतिस्थापित करेगी?

BLAST	LBPTS	SLBPT	LSCTP	?
-------	-------	-------	-------	---

Ans

✗ 1.

SCTPL

✗ 2.

SLDPT

✗ 3.

PLTSC

✓ 4.

PLSCT

KD JOB UPDATES

Question ID : 264330145482

Option 1 ID : 264330570183

Option 2 ID : 264330570185

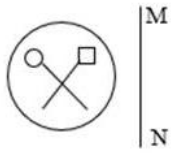
Option 3 ID : 264330570186

Option 4 ID : 264330570184

Status : Not Answered

Chosen Option : --

Q.15 जब दर्पण को रेखा MN पर रखा जाता है, तो दी गई आकृति का सही दर्पण प्रतिबिंब ज्ञात कीजिए।




Ans

✗ 1.



✓ 2.



✗ 3.



✗ 4.



Question ID : 26433056630

Option 1 ID : 264330221504

Option 2 ID : 264330221505

Option 3 ID : 264330221506

Option 4 ID : 264330221507

Status : Answered

Chosen Option : 2

Q.16 उस विकल्प का चयन करें, जो तीसरे शब्द से उसी प्रकार संबंधित है, जिस प्रकार दूसरा शब्द पहले शब्द से संबंधित है। (शब्दों को अर्थपूर्ण शब्दों के रूप में माना जाना चाहिए, और इनको शब्द में अक्षरों की संख्या/व्यंजनों/स्वरों की संख्या के आधार पर एक-दूसरे से संबंधित नहीं किया जाना चाहिए।)  
तितली (Butterfly) : इल्ली (Caterpillar) :: कीट (Insect) : ?

Ans ✗ 1. रोगाणु (Microbes)

✗ 2. निम्फ (Nymph)

✓ 3. लार्वा (Larva)

✗ 4. सिप्रेट (Cygnet)

Question ID : 26433091602

Option 1 ID : 264330359776

Option 2 ID : 264330359774

Option 3 ID : 264330359773

Option 4 ID : 264330359775

Status : Answered

Chosen Option : 3

Q.17 यदि A का अर्थ '+' है, B का अर्थ 'x' है, C का अर्थ '-' है, और D का अर्थ '÷' है, तो निम्नलिखित समीकरण में '?' के स्थान पर क्या आएगा?  
 $2 B ? D 2 = 4 B 32 D 8$

- Ans
- 1. 8
  - 2. 30
  - 3. 16
  - 4. 12

Question ID : 26433067669  
Option 1 ID : 264330265190  
Option 2 ID : 264330265189  
Option 3 ID : 264330265191  
Option 4 ID : 264330265188  
Status : Answered  
Chosen Option : 3

Q.18 सात व्यक्ति A, B, C, D, E, F और G उत्तर की ओर मुख करके एक सीधी पंक्ति में बैठे हैं (उनका इसी क्रम में होना अनिवार्य नहीं है)। D के बाईं ओर केवल 1 व्यक्ति बैठा है। A, D के ठीक बगल में बैठा है। F और D के बीच में केवल 2 व्यक्ति बैठे हैं। C और G के बीच में केवल 3 व्यक्ति बैठे हैं। B, G के ठीक बगल में नहीं है। E और A के बीच में केवल 2 व्यक्ति बैठे हैं। पंक्ति के बिल्कुल दाएं सिरे पर कौन बैठा है?

- Ans
- 1. A
  - 2. B
  - 3. C
  - 4. G

Question ID : 264330145408  
Option 1 ID : 264330569887  
Option 2 ID : 264330569890  
Option 3 ID : 264330569888  
Option 4 ID : 264330569889  
Status : Answered  
Chosen Option : 3

Q.19 निम्नलिखित में से कौन-सा पद दी गई श्रृंखला में प्रश्नवाचक चिह्न (?) का स्थान लेगा?

ABEG FFHI KJKK PNNM ?

- Ans
- 1. UROQ
  - 2. VRQO
  - 3. RUQO
  - 4. URQO

Question ID : 26433085320  
Option 1 ID : 264330334981  
Option 2 ID : 264330334984  
Option 3 ID : 264330334983  
Option 4 ID : 264330334982  
Status : Answered  
Chosen Option : 4

Q.20 विकल्पों में से दिए गए अक्षर-समूहों में से कौन सा, प्रश्नवाचक चिह्न (?) के स्थान पर आकर दी गई श्रृंखला को पूर्ण करेगा?

ELSV, FJVR, GHYN, ?, IDEF

- Ans  1. GHFJ  
 2. HFBJ  
 3. HFJB  
 4. HBJF

Question ID : 264330145423

Option 1 ID : 264330569950

Option 2 ID : 264330569947

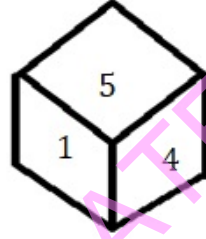
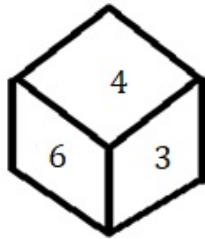
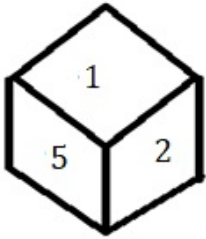
Option 3 ID : 264330569948

Option 4 ID : 264330569949

Status : Answered

Chosen Option : 2

Q.21 एक ही पासे की तीन अलग-अलग स्थितियाँ दर्शाई गई हैं। '4' दर्शाने वाले फलक के विपरीत फलक पर कौन-सी संख्या होगी?



- Ans  1. 3  
 2. 6  
 3. 1  
 4. 2

Question ID : 264330108967

Option 1 ID : 264330428147

Option 2 ID : 264330428148

Option 3 ID : 264330428145

Option 4 ID : 264330428146

Status : Answered

Chosen Option : 4

Q.22 किसी निश्चित कूट भाषा में, 'GAME' को '8426' के रूप में कूटबद्ध किया जाता है, और 'MUST' को '7853' के रूप में कूटबद्ध किया जाता है। दी गई उस कूट भाषा में 'M' के लिए कूट क्या है?

- Ans  1. 7  
 2. 3  
 3. 2  
 4. 8

Question ID : 264330169655

Option 1 ID : 264330665321

Option 2 ID : 264330665322

Option 3 ID : 264330665320

Option 4 ID : 264330665319

Status : Answered

Chosen Option : 4



Q.23 उस समुच्चय का चयन कीजिए जिसमें संख्याएँ उसी प्रकार संबंधित हैं जिस प्रकार निम्नलिखित समुच्चयों की संख्याएँ संबंधित हैं।

(नोट: संख्याओं को उसके घटक अंकों में विभाजित किए बिना, पूर्ण संख्याओं पर संक्रियाएँ की जानी चाहिए। उदाहरण के लिए 13 - इसमें 13 पर जोड़ने / घटाने / गुणा करने आदि जैसी संक्रियाओं को 13 में किया जा सकता है। 13 को 1 और 3 में विभाजित करने और फिर 1 और 3 पर गणितीय संक्रियाएँ करने की अनुमति नहीं है)

(7, 35, 42), (4, 20, 24)

Ans  1. (6, 36, 48)

2. (8, 56, 72)

3. (9, 45, 54)

4. (12, 60, 48)

Question ID : 264330145301

Option 1 ID : 264330569461

Option 2 ID : 264330569462

Option 3 ID : 264330569459

Option 4 ID : 264330569460

Status : Answered

Chosen Option : 3

Q.24 एक निश्चित कूट भाषा में, 'FLORA' को 'WQOLC' और 'MONEY' को 'PNPYE' के रूप में लिखा जाता है। उसी कूट भाषा में 'GOING' को किस प्रकार लिखा जाएगा?

Ans  1. RHKSR

2. VBUDP

3. VNUPW

4. RMWEH

Question ID : 26433074757

Option 1 ID : 264330293117

Option 2 ID : 264330293116

Option 3 ID : 264330293118

Option 4 ID : 264330293119

Status : Answered

Chosen Option : 3

Q.25 उस समुच्चय का चयन कीजिए जिसमें संख्याएँ उसी प्रकार संबंधित हैं जिस प्रकार निम्नलिखित समुच्चयों की संख्याएँ संबंधित हैं।

(नोट: संख्याओं को उसके घटक अंकों में विभाजित किए बिना, पूर्ण संख्याओं पर संक्रियाएँ की जानी चाहिए। उदाहरण के लिए 13 - इसमें 13 पर जोड़ने / घटाने / गुणा करने आदि जैसी संक्रियाओं को 13 में किया जा सकता है। 13 को 1 और 3 में विभाजित करने और फिर 1 और 3 पर गणितीय संक्रियाएँ करने की अनुमति नहीं है)

(264, 462), (132, 330)

Ans  1. (211, 340)

2. (282, 496)

3. (188, 378)

4. (386, 584)

Question ID : 264330145296

Option 1 ID : 264330569440

Option 2 ID : 264330569441

Option 3 ID : 264330569439

Option 4 ID : 264330569442

Status : Answered

Chosen Option : 4

Q.26 एक निश्चित कूट भाषा में, 'FRIEND' को 'IIFDME' और 'DEMAND' को 'MVDDMA' के रूप में लिखा जाता है। उसी कूट भाषा में 'GROUND' को किस प्रकार लिखा जाएगा?

- Ans  1. OIGDMU  
 2. OFTSBU  
 3. DOTENC  
 4. P XKRYS

Question ID : 26433074762  
Option 1 ID : 264330293137  
Option 2 ID : 264330293136  
Option 3 ID : 264330293138  
Option 4 ID : 264330293139  
Status : Answered  
Chosen Option : 1

Q.27 उस सही विकल्प का चयन कीजिए, जो दिए गए शब्दों के उसी क्रम में व्यवस्थापन को दर्शाता है, जिस क्रम में वे अंग्रेजी शब्दकोश में मौजूद होते हैं।

1. Desire
2. Destination
3. Descend
4. Destructive
5. Desolate
6. Desperate

- Ans  1. 3, 1, 2, 6, 5, 4  
 2. 3, 1, 5, 6, 4, 2  
 3. 3, 1, 5, 6, 2, 4  
 4. 3, 1, 6, 5, 2, 4

Question ID : 264330145377  
Option 1 ID : 264330569763  
Option 2 ID : 264330569766  
Option 3 ID : 264330569765  
Option 4 ID : 264330569764  
Status : Answered  
Chosen Option : 3

Q.28 यदि A का अर्थ '+' है, B का अर्थ 'x' है, C का अर्थ '-' है, और D का अर्थ '÷' है, तो निम्नलिखित समीकरण में '?' के स्थान पर क्या आएगा?  
7 A 3 B 24 D 2 = 20 B ? A 3

- Ans  1. 7  
 2. 14  
 3. 20  
 4. 2

Question ID : 26433067663  
Option 1 ID : 264330265165  
Option 2 ID : 264330265166  
Option 3 ID : 264330265164  
Option 4 ID : 264330265167  
Status : Answered  
Chosen Option : 4

Q.29 निम्नलिखित चार अक्षर-समूहों में से तीन किसी निश्चित तरीके से संगत हैं, और एक असंगत है। असंगत का चयन कीजिए।

- Ans  1. KLNPN  
 2. SRPH  
 3. WVTD  
 4. JIGQ

Question ID : 26433068792  
Option 1 ID : 264330269682  
Option 2 ID : 264330269680  
Option 3 ID : 264330269681  
Option 4 ID : 264330269683  
Status : Answered  
Chosen Option : 1

Q.30 उस विकल्प का चयन करें, जो पांचवें अक्षर-समूह से उसी प्रकार संबंधित है, जिस प्रकार दूसरा अक्षर-समूह पहले अक्षर-समूह से संबंधित है, और चौथा अक्षर-समूह तीसरे अक्षर-समूह से संबंधित है।

TEMPLE : SCJLGY :: CHURCH : BFRNXB :: MOSQUE : ?

- Ans  1. LMPYMP  
 2. LMPMPY  
 3. LMPYPM  
 4. LPYMPM

Question ID : 264330145394  
Option 1 ID : 264330569834  
Option 2 ID : 264330569832  
Option 3 ID : 264330569831  
Option 4 ID : 264330569833  
Status : Answered  
Chosen Option : 2

Q.31 छह मित्र एक वृत्ताकार स्थिति में बैठे हुए हैं। वे सभी केंद्र की ओर मुख करके बैठे हैं। कनक, सोना के दाईं ओर तीसरे स्थान पर है। कपिल, मणि के ठीक बगल में है। गोल्डी, मणि के दाईं ओर दूसरे स्थान पर बैठी है। सोना, कपिल और सुरेश के ठीक बगल में है। गोल्डी के दाईं ओर ठीक बगल में कौन बैठा है?

- Ans  1. कपिल  
 2. सोना  
 3. कनक  
 4. सुरेश

Question ID : 264330145405  
Option 1 ID : 264330569876  
Option 2 ID : 264330569877  
Option 3 ID : 264330569875  
Option 4 ID : 264330569878  
Status : Answered  
Chosen Option : 4

Q.32 "A = B" का अर्थ है कि "A, B का पिता है"।  
"A \$ B" का अर्थ है कि "A, B की बहन है"।  
"A \* B" का अर्थ है कि "A, B की माता है"।  
"A ? B" का अर्थ है कि "A, B का पुत्र है"।  
यदि M ? C \$ J \* Z है, तो J का M से क्या संबंध है?

- Ans  1. मौसी  
 2. बहन  
 3. भाई  
 4. नानी

Question ID : 264330145385

Option 1 ID : 264330569798

Option 2 ID : 264330569795

Option 3 ID : 264330569796

Option 4 ID : 264330569797




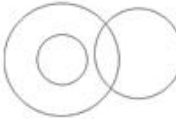
Status : Answered

Chosen Option : 1

Q.33 उस वेन आरेख का चयन करें, जो निम्नलिखित वर्गों के बीच के संबंध को सर्वोत्तम ढंग से दर्शाता है।

पेंसिल, रबड़, शार्पनर

Ans

1. 
2. 
3. 
4. 

Question ID : 264330145357

Option 1 ID : 264330569683

Option 2 ID : 264330569686

Option 3 ID : 264330569684

Option 4 ID : 264330569685

Status : Answered

Chosen Option : 2

Q.34 एक निश्चित कूट भाषा में "COURT" को OCRTR के रूप में कूटबद्ध किया जाता है, और "JUDGE" को UJAEG के रूप में कूटबद्ध किया जाता है। उसी कूट भाषा में "ORDER" को किस प्रकार कूटबद्ध किया जाएगा?

- Ans  1. LDRRE  
 2. REARO  
 3. ROARE  
 4. ROBRE

Question ID : 264330132206

Option 1 ID : 264330517919

Option 2 ID : 264330517920

Option 3 ID : 264330517921

Option 4 ID : 264330517922

Status : Answered

Chosen Option : 3

Q.35 दो कथन दिए गए हैं, जिसके बाद दो निष्कर्ष I और II दिए गए हैं। कथनों को सत्य मानते हुए, भले ही वे सामान्य रूप से ज्ञात तथ्यों से भिन्न प्रतीत होते हों, निर्णय लें कि कौन-से निष्कर्ष कथनों का तार्किक रूप से पालन करते हैं?

कथन:

सभी फूल पेड़ हैं।

सभी पत्ते फूल हैं।

निष्कर्ष:

I) सभी पेड़ फूल हैं।

II) सभी पत्ते पेड़ हैं।

Ans  1. केवल निष्कर्ष II पालन करता है।

2. निष्कर्ष I और II दोनों पालन करते हैं।

3. केवल निष्कर्ष I पालन करता है।

4. न तो निष्कर्ष I और न ही निष्कर्ष II पालन करता है।

Question ID : 26433067706

Option 1 ID : 264330265337

Option 2 ID : 264330265338

Option 3 ID : 264330265336

Option 4 ID : 264330265339

Status : Answered

Chosen Option : 1

Q.36 यदि A का अर्थ '+' है, B का अर्थ 'x' है, C का अर्थ '-' है और D का अर्थ '÷' है, तो निम्नलिखित व्यंजक का मान क्या होगा?

39 D 13 B 2 C 6 A 8

Ans  1. 9

2. 12

3. 10

4. 8

Question ID : 26433068700

Option 1 ID : 264330269315

Option 2 ID : 264330269312

Option 3 ID : 264330269314

Option 4 ID : 264330269313

Status : Answered

Chosen Option : 4

Q.37 कौन-सा अक्षर-समूह प्रश्नचिह्न (?) के स्थान पर आकर दी गई श्रृंखला को पूर्ण करेगा?  
MKPN, LMOP, ?, JQMT, ISLV

Ans  1. KOLT

2. KNMR

3. KONR

4. KNNQ

Question ID : 26433076662

Option 1 ID : 264330300715

Option 2 ID : 264330300712

Option 3 ID : 264330300713

Option 4 ID : 264330300714

Status : Answered

Chosen Option : 3

Q.38 यदि A का अर्थ '+' हो, B का अर्थ '×' हो, C का अर्थ '-' हो और D का अर्थ '÷' हो, तो निम्नलिखित समीकरण का मान कितना होगा?  
96 D 3 B 8 C 25 A 14 = ?

- Ans  1. 217  
 2. 245  
 3. 234  
 4. 254

Question ID : 264330129781  
Option 1 ID : 264330508356  
Option 2 ID : 264330508355  
Option 3 ID : 264330508358  
Option 4 ID : 264330508357  
Status : Answered  
Chosen Option : 2

Q.39 उस विकल्प का चयन कीजिए, जो दिए गए शब्दों के उस सही क्रम को दर्शाता है, जिस क्रम में वे अंग्रेजी शब्दकोश में मौजूद होते हैं।

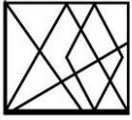
- 1.Lollipop
- 2.Loincloth
- 3.Longways
- 4.Logician
- 5.Lonely

- Ans  1. 3, 2, 1, 5, 4  
 2. 4, 2, 1, 5, 3  
 3. 4, 3, 1, 5, 2  
 4. 3, 4, 1, 5, 2

Question ID : 26433067241  
Option 1 ID : 264330263479  
Option 2 ID : 264330263478  
Option 3 ID : 264330263477  
Option 4 ID : 264330263476  
Status : Answered  
Chosen Option : 2

KD JOB UPDATES

Q.40 उस विकल्प का चयन कीजिए जो दी गई आकृति में इसके भाग के रूप में अंतर्निहित है (आकृति को घूमने की अनुमति नहीं है)।

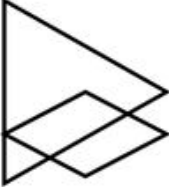


Ans

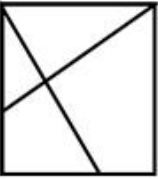
✓ 1.



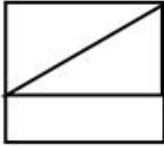
✗ 2.



✗ 3.



✗ 4.



Question ID : 264330145467

Option 1 ID : 264330570125

Option 2 ID : 264330570126

Option 3 ID : 264330570124

Option 4 ID : 264330570123

Status : Answered

Chosen Option : 1

Q.41 उस समुच्चय का चयन कीजिए जिसमें संख्याएँ आपस में उसी प्रकार संबंधित हैं जिस प्रकार निम्नलिखित समुच्चयों की संख्याएँ आपस में संबंधित हैं। (नोट: संख्याओं को उसके घटक अंकों में विभाजित किए बिना, पूर्ण संख्याओं पर गणितीय संक्रियाएं की जानी चाहिए। उदाहरण के लिए 13 - गणितीय संक्रियाएं जैसे कि जोड़ना/घटाना/गुणा करना इत्यादि 13 में किया जा सकता है। 13 को 1 और 3 में विभाजित करना और फिर 1 और 3 पर गणितीय संक्रियाएँ करने की अनुमति नहीं है।)

(7, 91, 98)

(4, 52, 56)

Ans ✗ 1. (3, 36, 42)

✓ 2. (12, 156, 168)

✗ 3. (5, 25, 60)

✗ 4. (8, 80, 96)

Question ID : 26433057449

Option 1 ID : 264330224781

Option 2 ID : 264330224782

Option 3 ID : 264330224780

Option 4 ID : 264330224783

Status : Answered

Chosen Option : 2

Q.42 दो कथन दिए गए हैं, जिसके बाद दो निष्कर्ष I और II दिए गए हैं। कथनों को सत्य मानते हुए, भले ही वे सामान्य रूप से ज्ञात तथ्यों से भिन्न प्रतीत होते हों, निर्धारित करें कि कौन-से निष्कर्ष कथनों का तार्किक रूप से पालन करते हैं?

कथन:

सभी पौधे सब्जियाँ हैं।

कुछ पौधे जहरीले हैं।

निष्कर्ष:

I. सभी सब्जियाँ जहरीली हैं।

II. कुछ सब्जियाँ पौधे हैं।

Ans

- ✓ 1. केवल निष्कर्ष II पालन करता है  
✗ 2. केवल निष्कर्ष I पालन करता है  
✗ 3. न तो निष्कर्ष I और न ही निष्कर्ष II पालन करता है  
✗ 4. निष्कर्ष I और II दोनों पालन करते हैं

Question ID : 26433056711

Option 1 ID : 264330221829

Option 2 ID : 264330221828

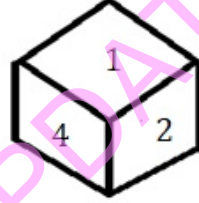
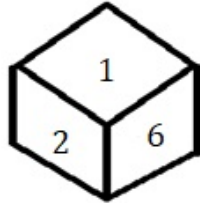
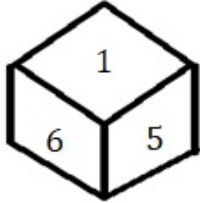
Option 3 ID : 264330221831

Option 4 ID : 264330221830

Status : Answered

Chosen Option : 1

Q.43 एक ही पासे की तीन अलग-अलग स्थितियाँ दर्शाई गई हैं। '1' दर्शाने वाले फलक के विपरीत फलक पर कौन-सी संख्या होगी?



Ans

- ✗ 1. 4  
✗ 2. 6  
✓ 3. 3  
✗ 4. 2

Question ID : 264330108971

Option 1 ID : 264330428164

Option 2 ID : 264330428161

Option 3 ID : 264330428163

Option 4 ID : 264330428162

Status : Answered

Chosen Option : 3

Q.44 उस विकल्प का चयन कीजिए, जो उन अक्षरों को निरूपित करता है, जिन्हें निम्न रिक्त स्थानों में बाएं से दाएं रखे जाने पर, वे अक्षर श्रृंखला को पूरा कर देंगे।

Ans

- ✓ 1. PSJK  
✗ 2. PRKL  
✗ 3. WYRS  
✗ 4. FHAB

Question ID : 264330180750

Option 1 ID : 264330708969

Option 2 ID : 264330708967

Option 3 ID : 264330708970

Option 4 ID : 264330708968

Status : Answered

Chosen Option : 1



Q.45 L, Q की पत्नी है। P, M की माता है। J, L का पिता है। M, H की बहन है। J, H का पति है। P का L से क्या संबंध है?

- Ans
- 1. भांजा
  - 2. बहनोई
  - 3. नानी
  - 4. मौसी

Question ID : 264330126021  
Option 1 ID : 264330493759  
Option 2 ID : 264330493758  
Option 3 ID : 264330493757  
Option 4 ID : 264330493756  
Status : Answered  
Chosen Option : 3

Q.46 निम्नलिखित में से कौन-सी संख्या दी गई श्रृंखला में प्रश्न-चिह्न (?) का स्थान लेगी?

35, ?, 40, 47, 45, 53

- Ans
- 1. 41
  - 2. 37
  - 3. 42
  - 4. 43

Question ID : 26433091009  
Option 1 ID : 264330357447  
Option 2 ID : 264330357446  
Option 3 ID : 264330357445  
Option 4 ID : 264330357448  
Status : Answered  
Chosen Option : 1

Q.47 निम्नलिखित में से कौन-सी संख्या दी गई श्रृंखला में प्रश्नवाचक चिह्न (?) का स्थान लेगी?  
115, 130, 122, 137, 129, ?

- Ans
- 1. 150
  - 2. 148
  - 3. 142
  - 4. 144

Question ID : 26433057327  
Option 1 ID : 264330224295  
Option 2 ID : 264330224294  
Option 3 ID : 264330224292  
Option 4 ID : 264330224293  
Status : Answered  
Chosen Option : 4

Q.48 उस समुच्चय का चयन कीजिए जिसमें संख्याएँ एक-दूसरे से उसी प्रकार संबंधित हैं जिस प्रकार निम्नलिखित समुच्चय की संख्याएँ आपस में संबंधित हैं।

(नोट: संख्याओं को उसके घटक अंकों में विभाजित किए बिना, पूर्ण संख्याओं पर गणितीय संक्रियाएँ की जानी चाहिए। उदाहरण के लिए 13 - संख्या 13 पर गणितीय संक्रियाएँ जैसे कि जोड़ना / घटाना / गुणा करना आदि को 13 से किया जा सकता है। 13 को 1 और 3 में तोड़ना और फिर 1 और 3 पर गणितीय संक्रियाएँ करने की अनुमति नहीं है।)

(6, 2, 96)  
(5, 6, 240)

- Ans  1. (12,3,45)  
 2. (4,1,6)  
 3. (1,2,16)  
 4. (8,3,28)

Question ID : 264330145319

Option 1 ID : 264330569531

Option 2 ID : 264330569533

Option 3 ID : 264330569534

Option 4 ID : 264330569532

Status : Answered

Chosen Option : 3

Q.49 दिए गए पैटर्न का ध्यानपूर्वक अध्ययन कीजिए और उस संख्या का चयन कीजिए, जो उसमें प्रश्न-चिह्न (?) को प्रतिस्थापित कर सके।

पहली पंक्ति: 19, 6, 37

दूसरी पंक्ति: 21, 8, 45

तीसरी पंक्ति: 72, 14, ?

(नोट: संख्याओं को उसके घटक अंकों में विभाजित किए बिना, पूर्ण संख्याओं पर गणितीय संक्रियाएँ की जानी चाहिए। उदाहरण के लिए 13 - गणितीय संक्रियाएँ जैसे कि जोड़ना/घटाना/गुणा करना इत्यादि 13 में किया जा सकता है। 13 को 1 और 3 में विभाजित करना और फिर 1 और 3 पर गणितीय संक्रियाएँ करने की अनुमति नहीं है।)

- Ans  1. 114  
 2. 144  
 3. 124  
 4. 134

Question ID : 26433068248

Option 1 ID : 264330267506

Option 2 ID : 264330267507

Option 3 ID : 264330267505

Option 4 ID : 264330267504

Status : Answered

Chosen Option : 1

Q.50 एक व्यक्ति बिंदु Z से चलना शुरू करता है, और दक्षिण की ओर 7 km चलता है। वह दाएं मुड़ता है, और 5 km चलता है, दाएं मुड़ता है, और 3 km चलता है, फिर दाएं मुड़ता है, और 1 km चलता है। फिर वह बाएं मुड़ता है, और बिंदु X पर पहुंचने के लिए 4 km चलता है। बिंदु Z पर पहुंचने के लिए अब उसे कितना और किस दिशा में चलना होगा?

- Ans  1. 4 km पूर्व  
 2. 4 km दक्षिण  
 3. 4 km पश्चिम  
 4. 6 km पूर्व

Question ID : 26433081451

Option 1 ID : 264330319639

Option 2 ID : 264330319638

Option 3 ID : 264330319637

Option 4 ID : 264330319640

Status : Answered

Chosen Option : 1

Q.1 किस जर्मन रसायनज्ञ ने सर्वप्रथम परमाणु भार की तुलना में खींचे गए परमाणु आयतन की आवर्तिता का ग्राफीय निरूपण प्रदर्शित किया था?

- Ans
- 1. जॉन न्यूलैंड्स (John Newlands)
  - 2. विलियम रामसे (William Ramsay)
  - 3. लोथर मेयर (Lothar Meyer)
  - 4. ग्लेन टी. सीबोर्ग (Glenn T Seaborg)

Question ID : 264330110063

Option 1 ID : 264330432530

Option 2 ID : 264330432531

Option 3 ID : 264330432532

Option 4 ID : 264330432529

Status : Answered

Chosen Option : 2

Q.2 निम्नलिखित में से किसे आर्थिक विकास का एक अच्छा संकेतक माना जाता है?

- Ans
- 1. अंतरराष्ट्रीय व्यापार में स्थिर वृद्धि
  - 2. जनसंख्या में स्थिर वृद्धि
  - 3. सकल घरेलू उत्पाद (GDP) में स्थिर वृद्धि
  - 4. ऋण में स्थिर वृद्धि

Question ID : 26433054585

Option 1 ID : 264330213327

Option 2 ID : 264330213324

Option 3 ID : 264330213325

Option 4 ID : 264330213326

Status : Answered

Chosen Option : 3

Q.3 पद्म श्री, पद्म भूषण और पद्म विभूषण पुरस्कार से सम्मानित, डॉ. तीजन बाई, निम्नलिखित में से किस कला शैली में उनके योगदान के लिए विश्वप्रसिद्ध हैं?

- Ans
- 1. राउत नाच
  - 2. गेंडी
  - 3. पंडवानी
  - 4. झिरलिटि

Question ID : 264330145167

Option 1 ID : 264330568926

Option 2 ID : 264330568925

Option 3 ID : 264330568924

Option 4 ID : 264330568923

Status : Answered

Chosen Option : 3

Q.4 खरीफ फसलों के लिए, उच्च आर्द्रता और \_\_\_\_\_ cm से अधिक वार्षिक वर्षा के साथ खेती के लिए आवश्यक तापमान 25 डिग्री सेल्सियस से अधिक होता है।

- Ans
- 1. 35
  - 2. 16
  - 3. 100
  - 4. 50

Question ID : 264330163197  
Option 1 ID : 264330640101  
Option 2 ID : 264330640099  
Option 3 ID : 264330640102  
Option 4 ID : 264330640100  
Status : Answered  
Chosen Option : 3

Q.5 चाहमान (चौहान) वंश के किस शासक ने अजमेर को अपनी राजधानी बनाया?

- Ans
- 1. अणोरिज
  - 2. पृथ्वीराज III
  - 3. पृथ्वीराज II
  - 4. अजयराज

Question ID : 264330109001  
Option 1 ID : 264330428281  
Option 2 ID : 264330428284  
Option 3 ID : 264330428283  
Option 4 ID : 264330428282  
Status : Answered  
Chosen Option : 4

Q.6 आरुषि मुद्गल को \_\_\_\_\_ नृत्य के लिए गुरु केलुचरण महापात्र युवा प्रतिभा सम्मान, 2021 से सम्मानित किया गया।

- Ans
- 1. ओडिसी
  - 2. मोहिनीअट्टम
  - 3. कथक
  - 4. कुचिपुडी

Question ID : 26433054500  
Option 1 ID : 264330212986  
Option 2 ID : 264330212985  
Option 3 ID : 264330212987  
Option 4 ID : 264330212984  
Status : Answered  
Chosen Option : 1

Q.7 निम्नलिखित में से किस भारतीय लेखक ने 'माई स्टोरी' नामक आत्मकथा लिखी है?

- Ans
- 1. किरण देसाई
  - 2. कमला दास
  - 3. शोभा डे
  - 4. अरुंधति रॉय

Question ID : 26433071471  
Option 1 ID : 264330280311  
Option 2 ID : 264330280308  
Option 3 ID : 264330280309  
Option 4 ID : 264330280310  
Status : Answered  
Chosen Option : 1

Q.8 तीसरे गोलमेज सम्मेलन में प्रतिनिधियों के विचार-विमर्श किस वर्ष के आखिरी महीनों में हुए थे?

- Ans
- 1. 1930
  - 2. 1929
  - 3. 1931
  - 4. 1932

Question ID : 264330112181  
Option 1 ID : 264330440809  
Option 2 ID : 264330440810  
Option 3 ID : 264330440812  
Option 4 ID : 264330440811  
Status : Answered  
Chosen Option : 4

Q.9 सामान्य तापमान और वायुमंडलीय दाब पर, \_\_\_\_\_ का घनत्व  $1.87 \text{ kg/m}^3$  होता है, जो वायु से 1.5 गुना भारी होता है, और यह  $31^\circ\text{C}$  के क्रांतिक तापमान से नीचे द्रव अवस्था में मौजूद होता है।

- Ans
- 1. नाइट्रोजन
  - 2. कार्बन डाईऑक्साइड
  - 3. हाइड्रोजन
  - 4. लीथियम

Question ID : 264330110060  
Option 1 ID : 264330432518  
Option 2 ID : 264330432517  
Option 3 ID : 264330432519  
Option 4 ID : 264330432520  
Status : Answered  
Chosen Option : 4

Q.10 वल्लभभाई पटेल और \_\_\_\_\_ ने खेड़ा में गांधी जी के गांवों के दौरे की व्यवस्था करके तथा किसानों को सरकार के खिलाफ मजबूती से खड़े होने के लिए प्रोत्साहित करके गांधी जी की सहायता की।

- Ans
- 1. इंदुलाल याग्रिक
  - 2. मोहम्मद अली जिन्ना
  - 3. जमनालाल बजाज
  - 4. मोतीलाल नेहरू

Question ID : 264330165396  
Option 1 ID : 264330648665  
Option 2 ID : 264330648664  
Option 3 ID : 264330648666  
Option 4 ID : 264330648663  
Status : Answered  
Chosen Option : 3

Q.11 राष्ट्रीय महिला आयोग की स्थापना निम्नलिखित में से किस अधिनियम के तहत की गई थी?

- Ans
- 1. राष्ट्रीय महिला आयोग अधिनियम, 1988
  - 2. राष्ट्रीय महिला आयोग अधिनियम, 1989
  - 3. राष्ट्रीय महिला आयोग अधिनियम, 1987
  - 4. राष्ट्रीय महिला आयोग अधिनियम, 1990

Question ID : 264330145264  
Option 1 ID : 264330569312  
Option 2 ID : 264330569313  
Option 3 ID : 264330569311  
Option 4 ID : 264330569314  
Status : Answered  
Chosen Option : 4

Q.12 निम्नलिखित में से कौन सा घुड़सवारी प्रतियोगिता नहीं है?

- Ans  1. वॉल्टिंग (Vaulting)  
 2. स्प्रिंट (Sprint)  
 3. ड्रेसेज (Dressage)  
 4. शो जंपिंग (Show jumping)

Question ID : 26433089944  
Option 1 ID : 264330353254  
Option 2 ID : 264330353256  
Option 3 ID : 264330353253  
Option 4 ID : 264330353255  
Status : Not Answered  
Chosen Option : --

Q.13 समुद्र के सबसे उथले हिस्से, महाद्वीपीय शेल्फ की औसत ढाल \_\_\_\_\_ होती है।

- Ans  1. 5° या उससे भी कम  
 2. 8° या उससे भी कम  
 3. 1° या उससे भी कम  
 4. 2° या उससे भी कम

Question ID : 26433055832  
Option 1 ID : 264330218314  
Option 2 ID : 264330218315  
Option 3 ID : 264330218312  
Option 4 ID : 264330218313  
Status : Answered  
Chosen Option : 1

Q.14 निम्नलिखित में से किसने चेन्नई में कलाक्षेत्र फाउंडेशन की स्थापना की, जो ललित कलाओं के अध्ययन और प्रदर्शन के लिए एक महत्त्वपूर्ण केंद्र है?

- Ans  1. मृणालिनी साराभाई (Mrinalini Sarabhai)  
 2. रुक्मिणी देवी अरुंडेल (Rukmini Devi Arundale)  
 3. अलार्मेल वल्ली (Alarmel Valli)  
 4. यामिनी कृष्णमूर्ति (Yamini Krishnamurthy)

Question ID : 26433054507  
Option 1 ID : 264330213014  
Option 2 ID : 264330213015  
Option 3 ID : 264330213012  
Option 4 ID : 264330213013  
Status : Answered  
Chosen Option : 3

Q.15 12वीं शताब्दी के भारतीय राजा पृथ्वीराज चौहान के जीवन पर लिखित महाकाव्य पृथ्वीराज रासो की रचना \_\_\_\_\_ ने की थी।

- Ans  1. भारवि  
 2. अश्वघोष  
 3. बाणभट्ट  
 4. चंद्रबरदाई

Question ID : 26433071390  
Option 1 ID : 264330279985  
Option 2 ID : 264330279984  
Option 3 ID : 264330279986  
Option 4 ID : 264330279987  
Status : Answered  
Chosen Option : 4

Q.16 निम्नलिखित पुस्तकों में से कौन-सी पूर्व अमेरिकी राष्ट्रपति बिल क्लिंटन की आत्मकथा है?

- Ans  1. माई कंट्री माई लाइफ  
 2. बिकमिंग  
 3. माइ लाइफ  
 4. लॉन्ग वॉक टू फ्रीडम

Question ID : 264330145176  
Option 1 ID : 264330568962  
Option 2 ID : 264330568959  
Option 3 ID : 264330568960  
Option 4 ID : 264330568961  
Status : Answered  
Chosen Option : 2

Q.17 निम्नलिखित में से किसे आपातकाल के दौरान असाधारण शक्तियाँ प्रदान की गई हैं?

- Ans  1. मुख्य न्यायाधीश  
 2. राष्ट्रपति  
 3. प्रधानमंत्री  
 4. राज्यपाल

Question ID : 264330118528  
Option 1 ID : 264330465515  
Option 2 ID : 264330465514  
Option 3 ID : 264330465513  
Option 4 ID : 264330465516  
Status : Answered  
Chosen Option : 2

Q.18 भारतीय अर्थव्यवस्था ने हरित क्रांति की सफलता का अनुभव कितने चरणों में किया?

- Ans  1. पांच  
 2. तीन  
 3. चार  
 4. दो

Question ID : 264330145245  
Option 1 ID : 264330569238  
Option 2 ID : 264330569236  
Option 3 ID : 264330569237  
Option 4 ID : 264330569235  
Status : Answered  
Chosen Option : 4

Q.19 कालबैसाखी क्या है?

- Ans  1. शीत लहर और वर्षा  
 2. गरम हवाएं और लू  
 3. मानसून से पहले की वर्षा और तड़ित् झंझावात  
 4. हिमपात और ओलावृष्टि

Question ID : 264330119786  
Option 1 ID : 264330469419  
Option 2 ID : 264330469422  
Option 3 ID : 264330469420  
Option 4 ID : 264330469421  
Status : Answered  
Chosen Option : 1

Q.20 भारत में \_\_\_\_\_ से कम के सभी ऋणों को सूक्ष्म ऋण (micro loans) माना जाता है।

- Ans  1. एक लाख रुपए  
 2. दो लाख रुपए  
 3. चार लाख रुपए  
 4. तीन लाख रुपए

Question ID : 264330145237  
Option 1 ID : 264330569203  
Option 2 ID : 264330569204  
Option 3 ID : 264330569206  
Option 4 ID : 264330569205  
Status : Answered  
Chosen Option : 4

Q.21 वॉलीबॉल खेल में, प्रत्येक टीम में कितने खिलाड़ी होते हैं?

- Ans  1. 6  
 2. 7  
 3. 8  
 4. 5

Question ID : 264330109851  
Option 1 ID : 264330431682  
Option 2 ID : 264330431683  
Option 3 ID : 264330431684  
Option 4 ID : 264330431681  
Status : Answered  
Chosen Option : 2

Q.22 नागालैंड का मोत्सु त्यौहार (Moatsu festival) निम्नलिखित में से किस जनजाति द्वारा मनाया जाता है?

- Ans  1. आओ जनजाति (Ao tribe)  
 2. मुण्डा जनजाति (Munda tribe)  
 3. बोडो जनजाति (Bodo tribe)  
 4. भील जनजाति (Bhil tribe)

Question ID : 264330164802  
Option 1 ID : 264330646335  
Option 2 ID : 264330646338  
Option 3 ID : 264330646336  
Option 4 ID : 264330646337  
Status : Answered  
Chosen Option : 3

Q.23 वैश्विक भुखमरी सूचकांक (Global Hunger Index) 2022 के अनुसार, इनमें से कौन-सा एकमात्र पड़ोसी देश 121 देशों में से 109 रैंक के साथ भारत से पीछे है?

- Ans  1. पाकिस्तान  
 2. नेपाल  
 3. बांग्लादेश  
 4. अफ़ग़ानिस्तान

Question ID : 264330157103  
Option 1 ID : 264330615785  
Option 2 ID : 264330615784  
Option 3 ID : 264330615783  
Option 4 ID : 264330615786  
Status : Answered  
Chosen Option : 4



Q.24 भारत में, औद्योगिक क्षेत्र के विनियमन को लागू करने के लिए निम्नलिखित में से कौन-सा नियामक तंत्र अस्तित्व में नहीं था?

Ans  1. औद्योगिक लाइसेंसिंग, जिसके तहत प्रत्येक उद्यमी को कोई फर्म शुरू करने, फर्म को बंद करने या उत्पादित किए जा सकने वाले माल/वस्तुओं की मात्रा तय करने के लिए सरकारी अधिकारियों से अनुमति लेनी पड़ती थी।

2. सभी उद्योगों में निजी क्षेत्र को अनुमति दी गई थी।

3. कुछ माल/वस्तुओं का उत्पादन केवल लघु उद्योगों में ही किया जा सकता था।

4. चुनिंदा औद्योगिक उत्पादों के मूल्य निर्धारण और वितरण पर नियंत्रण।

Question ID : 26433064577

Option 1 ID : 264330252900

Option 2 ID : 264330252901

Option 3 ID : 264330252902

Option 4 ID : 264330252903

Status : Answered

Chosen Option : 1

Q.25 मेथिल एथिल कीटोन (Methyl ethyl ketone) को \_\_\_\_\_ के नाम से भी जाना जाता है।

Ans  1. प्रोपेनोन

2. मेथिल पेंटानोन

3. 2-ब्यूटेनोन

4. 2-ब्यूटेनॉल

Question ID : 264330131776

Option 1 ID : 264330516203

Option 2 ID : 264330516206

Option 3 ID : 264330516205

Option 4 ID : 264330516204

Status : Not Answered

Chosen Option : --

Q.26 नवंबर 2020 में, \_\_\_\_\_ ने विश्व का अब तक का सबसे तेज पियानो वादक होने का रिकॉर्ड बनाया।

Ans  1. गौरी मिश्रा

2. अनिश्रीनिवासन

3. लिडियन नादस्वरम

4. शिखा चौरसिया

Question ID : 264330145151

Option 1 ID : 264330568859

Option 2 ID : 264330568861

Option 3 ID : 264330568862

Option 4 ID : 264330568860

Status : Answered

Chosen Option : 1

Q.27 प्रसिद्ध संगीतकार तानसेन, प्रायः किस शासक के दरबार में गाया करते थे?

- Ans
- 1. फिरोज शाह तुगलक
  - 2. अलाउद्दीन खिलजी
  - 3. शेर शाह सूरी
  - 4. अकबर

Question ID : 26433074852

Option 1 ID : 264330293498

Option 2 ID : 264330293496

Option 3 ID : 264330293499

Option 4 ID : 264330293497

Status : Answered

Chosen Option : 4

Q.28 ध्रुवसेन द्वितीय, निम्नलिखित में से किस शासक राजवंश से संबंधित है?

- Ans
- 1. वाकाटक
  - 2. पुष्यभूति
  - 3. मौखरि
  - 4. मैत्रक

Question ID : 264330165568

Option 1 ID : 264330649354

Option 2 ID : 264330649353

Option 3 ID : 264330649352

Option 4 ID : 264330649351

Status : Answered

Chosen Option : 3

Q.29 प्रथम राष्ट्रमंडल खेलों का आयोजन निम्नलिखित में से किस वर्ष किया गया था?

- Ans
- 1. 1920
  - 2. 1922
  - 3. 1930
  - 4. 1926

Question ID : 264330118888

Option 1 ID : 264330466207

Option 2 ID : 264330466208

Option 3 ID : 264330466210

Option 4 ID : 264330466209

Status : Answered

Chosen Option : 3

Q.30 मामल्लपुरम का तटीय मंदिर (Shore temple of Mamallapuram) किसके द्वारा बनवाया गया था?

- Ans
- 1. पल्लव
  - 2. नाग
  - 3. चोल
  - 4. चालुक्य

Question ID : 264330164857

Option 1 ID : 264330646557

Option 2 ID : 264330646555

Option 3 ID : 264330646556

Option 4 ID : 264330646558

Status : Not Answered

Chosen Option : --

Q.31 p-ब्लॉक के तत्वों के बारे में दिए गए सही या गलत कथनों की पहचान कीजिए।  
कथन A: p-ब्लॉक तत्वों में, अंतिम इलेक्ट्रॉन वाह्यतम p कक्षक में प्रवेश करता है।  
कथन B: अधातुएं और उपधातुएं केवल आवर्त सारणी के p-ब्लॉक में मौजूद होती हैं।

- Ans
- 1. कथन A और B दोनों गलत हैं
  - 2. केवल कथन A सही है
  - 3. केवल कथन B सही है
  - 4. कथन A और B दोनों सही हैं

Question ID : 264330137995  
Option 1 ID : 264330540588  
Option 2 ID : 264330540587  
Option 3 ID : 264330540589  
Option 4 ID : 264330540590  
Status : Not Answered  
Chosen Option : --

Q.32 भूटिया नृत्य (Bhutia dance) निम्नलिखित में से किस राज्य में किया जाता है?

- Ans
- 1. नागालैंड
  - 2. ओडिशा
  - 3. सिक्किम
  - 4. पश्चिम बंगाल

Question ID : 264330164793  
Option 1 ID : 264330646301  
Option 2 ID : 264330646302  
Option 3 ID : 264330646299  
Option 4 ID : 264330646300  
Status : Answered  
Chosen Option : 1

Q.33 भारतीय उपमहाद्वीप की जलवायु के संबंध में निम्नलिखित में से कौन से कथन सही हैं?

- A. उत्तर भारत की जलवायु वर्ष भर एक समान रहती है।  
B. हिमालय, मध्य एशिया से आने वाली अत्यधिक ठंडी हवाओं से उपमहाद्वीप की रक्षा करता है।

- Ans
- 1. कथन A और B दोनों गलत हैं
  - 2. केवल कथन A सही है
  - 3. केवल कथन B सही है
  - 4. कथन A और B दोनों सही हैं

Question ID : 264330121168  
Option 1 ID : 264330474877  
Option 2 ID : 264330474875  
Option 3 ID : 264330474878  
Option 4 ID : 264330474876  
Status : Answered  
Chosen Option : 3

Q.34 बैक्टीरिया के संबंध में PPLO का पूर्ण रूप क्या है?

- Ans
- 1. Pneumonia Platelet Like Organisms (निमोनिया प्लेटलेट लाइक ऑर्गेनिज़्म)
  - 2. Pleuro Pneumonia Like Organisms (प्लुरो निमोनिया लाइक ऑर्गेनिज़्म )
  - 3. Platelet Prone Like Organisms (प्लेटलेट प्रोन लाइक ऑर्गेनिज़्म)
  - 4. Pleuro Platelet Like Organisms (प्लुरो प्लेटलेट लाइक ऑर्गेनिज़्म )

Question ID : 264330145218

Option 1 ID : 264330569130

Option 2 ID : 264330569127

Option 3 ID : 264330569128

Option 4 ID : 264330569129

Status : Answered

Chosen Option : 4

Q.35 ब्रायोफाइटा (गैर-संवहनी पौधों) और फर्न में शुक्राणु कोशिकाओं का निर्माण और उन्हें होल्ड करने वाली संरचना क्या कहलाती है?

- Ans
- 1. मेगास्पोरेंजिया (megasporangia)
  - 2. एंथेरिडियम (antheridium)
  - 3. आर्कगोनियम (archegonium)
  - 4. प्रोटोनिमा (protonema)

Question ID : 264330145205

Option 1 ID : 264330569075

Option 2 ID : 264330569077

Option 3 ID : 264330569076

Option 4 ID : 264330569078

Status : Answered

Chosen Option : 1

Q.36 राजकोषीय क्षेत्र में सरकार की प्राथमिकताओं तथा उससे संबंधित नीतियों एवं विचलनों का उल्लेख बजट दस्तावेज के किस भाग में किया जाता है?

- Ans
- 1. राजकोषीय नीति कार्ययोजना विवरण
  - 2. मध्यावधिक राजकोषीय नीति विवरण
  - 3. विनियोग विधेयक
  - 4. वृहद आर्थिक रूपरेखा विवरण

Question ID : 264330141437

Option 1 ID : 264330554084

Option 2 ID : 264330554083

Option 3 ID : 264330554086

Option 4 ID : 264330554085

Status : Not Answered

Chosen Option : --

Q.37 भारत ने किस पड़ोसी देश के साथ 1996 में गंगा जल को साझा करने (बँटवारे) और इसके प्रवाह को बढ़ाने के लिए फरवका संधि पर हस्ताक्षर किए थे?

- Ans
- 1. नेपाल
  - 2. बांग्लादेश
  - 3. अफगानिस्तान
  - 4. भूटान

Question ID : 264330111362  
Option 1 ID : 264330437535  
Option 2 ID : 264330437534  
Option 3 ID : 264330437533  
Option 4 ID : 264330437536  
Status : Answered  
Chosen Option : 2

Q.38 2020 ओलंपिक खेलों में सुपर हैवीवेट बॉक्सिंग स्पर्धा में भाग लेने वाले/वाली प्रथम भारतीय कौन थे/थीं?

- Ans
- 1. अमित पंचाल
  - 2. सतीश कुमार
  - 3. मनीष हर्षित
  - 4. साक्षी चौधरी

Question ID : 26433096226  
Option 1 ID : 264330377657  
Option 2 ID : 264330377658  
Option 3 ID : 264330377659  
Option 4 ID : 264330377660  
Status : Answered  
Chosen Option : 3

Q.39 साओ जोआओ त्यौहार (Sao Joao festival) मुख्य रूप से निम्नलिखित में से किस भारतीय राज्य में कैथोलिक ईसाइयों द्वारा मनाया जाता है?

- Ans
- 1. असम
  - 2. मणिपुर
  - 3. नागालैंड
  - 4. गोवा

Question ID : 26433064692  
Option 1 ID : 264330253361  
Option 2 ID : 264330253362  
Option 3 ID : 264330253363  
Option 4 ID : 264330253360  
Status : Answered  
Chosen Option : 4

Q.40 निम्नलिखित में से कौन-सा कार्बनिक यौगिकों के परिवार से संबंधित नहीं है?

- Ans
- 1. नोनेन (Nonane)
  - 2. डेकेन (Decane)
  - 3. अमोनिया (Ammonia)
  - 4. फ्यूरान (Furan)

Question ID : 264330131690  
Option 1 ID : 264330515859  
Option 2 ID : 264330515861  
Option 3 ID : 264330515860  
Option 4 ID : 264330515862  
Status : Answered  
Chosen Option : 3

Q.41 17वीं लोकसभा में पंजाब से कितने सांसद (Members of Parliament) चुने गए?

- Ans
- 1. 15
  - 2. 14
  - 3. 13
  - 4. 17

Question ID : 264330114610  
Option 1 ID : 264330450527  
Option 2 ID : 264330450526  
Option 3 ID : 264330450525  
Option 4 ID : 264330450528  
Status : Not Answered  
Chosen Option : --

Q.42 ज्योतिराव गोविंदराव फुले ने 1873 में मूर्तिपूजा और जाति व्यवस्था के खिलाफ लड़ने के लिए निम्नलिखित में से किसकी स्थापना की थी?

- Ans
- 1. आर्य समाज
  - 2. श्री नारायण गुरु धर्म परिपालन (SNDP) आंदोलन
  - 3. सत्यशोधक समाज
  - 4. यंग बंगाल आंदोलन

Question ID : 26433099177  
Option 1 ID : 264330389323  
Option 2 ID : 264330389321  
Option 3 ID : 264330389324  
Option 4 ID : 264330389322  
Status : Answered  
Chosen Option : 3

Q.43 भारत के वित्त आयोग के पहले अध्यक्ष (chairman) कौन थे?

- Ans
- 1. केसी नियोगी
  - 2. अशोक कुमार चंदा
  - 3. पीवी राजमन्नार
  - 4. के संथानम

Question ID : 264330133074  
Option 1 ID : 264330521347  
Option 2 ID : 264330521349  
Option 3 ID : 264330521350  
Option 4 ID : 264330521348  
Status : Answered  
Chosen Option : 1

Q.44 सौरमंडल के निर्माण (formation) और निरूपण (evaluation) की व्याख्या करने के लिए सर्वाधिक व्यापक रूप से स्वीकृत मॉडल कौन-सा है?

- Ans
- 1. सौर परिकल्पना (Solar hypothesis)
  - 2. निहारिका परिकल्पना (Nebular hypothesis)
  - 3. क्लाउड परिकल्पना (Cloud hypothesis)
  - 4. गैसीय परिकल्पना (Gas hypothesis)

Question ID : 264330113348  
Option 1 ID : 264330445479  
Option 2 ID : 264330445478  
Option 3 ID : 264330445477  
Option 4 ID : 264330445480  
Status : Answered  
Chosen Option : 2

Q.45 भारतीय संविधान का कौन सा भाग मूल अधिकारों से संबंधित है?

- Ans
- 1. भाग V
  - 2. भाग II
  - 3. भाग III
  - 4. भाग IV

Question ID : 264330111518  
Option 1 ID : 264330438160  
Option 2 ID : 264330438157  
Option 3 ID : 264330438158  
Option 4 ID : 264330438159  
Status : Answered  
Chosen Option : 3

Q.46 निम्नलिखित में से किस शैवाल को केल्व (kelp) भी कहा जाता है, और यह गहरे समुद्र में पाया जाता है?

- Ans
- 1. फ्यूकस (Fucus)
  - 2. नॉस्टॉक (Nostoc)
  - 3. क्लैमाइडोमोना (Chlamydomona)
  - 4. लैमिनारिया (Lamanaria)

Question ID : 26433089669  
Option 1 ID : 264330352177  
Option 2 ID : 264330352179  
Option 3 ID : 264330352180  
Option 4 ID : 264330352178  
Status : Answered  
Chosen Option : 1

Q.47 पौधों में रंध्रों (stomata) की स्थिति की पहचान कीजिए।

- Ans
- 1. तने की नोक पर
  - 2. पत्तियों की सतह पर
  - 3. जड़ों के भीतर
  - 4. पुष्प के भीतर

Question ID : 26433064754  
Option 1 ID : 264330253610  
Option 2 ID : 264330253609  
Option 3 ID : 264330253608  
Option 4 ID : 264330253611  
Status : Answered  
Chosen Option : 2

Q.48 विश्व स्तर पर कितने नियंत्रण हैं, जो किसी विशेष क्षेत्र की जलवायु को प्रभावित करते हैं?

- Ans
- 1. 5
  - 2. 6
  - 3. 8
  - 4. 3

Question ID : 264330163229  
Option 1 ID : 264330640228  
Option 2 ID : 264330640229  
Option 3 ID : 264330640230  
Option 4 ID : 264330640227  
Status : Answered  
Chosen Option : 2

Q.49 अटल सुरंग किन दो स्थानों को जोड़ती है?

- Ans  1. शिमला और नैनीताल  
 2. मनाली और लाहौल-स्पीति घाटी  
 3. शिमला और मंसूरी  
 4. मनाली और नैनीताल

Question ID : 264330112690

Option 1 ID : 264330442848

Option 2 ID : 264330442845

Option 3 ID : 264330442847

Option 4 ID : 264330442846

Status : Answered

Chosen Option : 2

Q.50 निम्नलिखित में से कौन सा कथन भारतीय संविधान में मूल कर्तव्यों के संबंध में सही नहीं है?

- Ans  1. इन्हें उन महान आदर्शों को संजोने और उनका पालन करने के लिए बनाया गया है, जिन्होंने स्वतंत्रता के लिए हमारे राष्ट्रीय संघर्ष को प्रेरित किया।  
 2. वे हमारी मिश्रित संस्कृति की समृद्ध विरासत को महत्व देने और संरक्षित करने के लिए बने हैं।  
 3. इन्हें न्यायोचित प्रकृति का बनाया गया है।  
 4. इन्हें वैज्ञानिक सोच, मानवतावाद और अन्वेषण एवं सुधार की भावना विकसित करने के लिए बनाया गया है।

Question ID : 264330113382

Option 1 ID : 264330445615

Option 2 ID : 264330445614

Option 3 ID : 264330445613

Option 4 ID : 264330445616

Status : Answered

Chosen Option : 2

Section : Quantitative Aptitude

Q.1 एक व्यक्ति एक 900 मीटर लंबी सड़क को 6 मिनट में पार करता है। व्यक्ति की चाल km/h में ज्ञात कीजिए।

- Ans  1. 9  
 2. 10  
 3. 5  
 4. 8

Question ID : 264330103677

Option 1 ID : 264330407013

Option 2 ID : 264330407016

Option 3 ID : 264330407015

Option 4 ID : 264330407014

Status : Answered

Chosen Option : 1



Q.2 उस त्रिभुज का क्षेत्रफल कितना होगा, जिसकी भुजाओं की लंबाइयां 12 cm, 13 cm और 5 cm है?

- Ans  1.  $30 \text{ cm}^2$   
 2.  $15 \text{ cm}^2$   
 3.  $40 \text{ cm}^2$   
 4.  $70 \text{ cm}^2$

Question ID : 264330106081

Option 1 ID : 264330416627

Option 2 ID : 264330416625

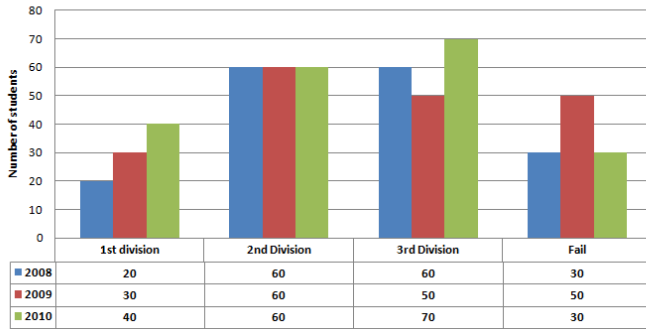
Option 3 ID : 264330416626

Option 4 ID : 264330416628

Status : Answered

Chosen Option : 1

Q.3 दिए गए दंड आरेख का अध्ययन करें और निम्नलिखित प्रश्न का उत्तर दें।  
नीचे दिए गए दंड आरेख में एक स्कूल के वर्ष 2008, 2009 और 2010 के उच्च माध्यमिक -विद्यार्थियों को दिखाया गया है।



वर्ष 2010 में द्वितीय श्रेणी में उत्तीर्ण होने वाले विद्यार्थियों का प्रतिशत कितना था?

Number of students - विद्यार्थियों की संख्या 1st division - प्रथम श्रेणी 2nd division - द्वितीय श्रेणी 3rd division - तृतीय श्रेणी

Fail - अनुत्तीर्ण

- Ans  1. 30%  
 2. 32%  
 3. 25%  
 4. 28%

Question ID : 264330163475

Option 1 ID : 264330641161

Option 2 ID : 264330641162

Option 3 ID : 264330641159

Option 4 ID : 264330641160

Status : Not Answered

Chosen Option : --

Q.4 दिए गए डेटा का अध्ययन कीजिए और नीचे दिए गए प्रश्न का उत्तर दीजिए।

डेटा, यूएसए (USA) में वर्ष 2020, 2021, 2022 में सिविल सेवा (CS) और इंजीनियरिंग सेवा (ES) परीक्षाओं के लिए उपस्थित होने वाले उम्मीदवारों की संख्या (हजार में) दर्शाता है।

वर्ष	सिविल सेवा		इंजीनियरिंग सेवा	
	उपस्थित हुए उम्मीदवारों की कुल संख्या	कुल उपस्थित हुए उम्मीदवारों में से स्नातक (% में)	उपस्थित हुए उम्मीदवारों की कुल संख्या	कुल उपस्थित हुए उम्मीदवारों में से स्नातक (% में)
2020	75	60	89	57
2021	110	64	118	65
2022	120	80	135	78

वर्ष 2022 में CS और ES दोनों के लिए उपस्थित हुए स्नातकों की कुल संख्या कितनी है?

- Ans
- 1. 2,01,200
  - 2. 2,01,000
  - 3. 2,01,100
  - 4. 2,01,300

Question ID : 264330158260

Option 1 ID : 264330620401

Option 2 ID : 264330620399

Option 3 ID : 264330620400

Option 4 ID : 264330620402

Status : Not Answered

Chosen Option : --

Q.5 यदि 3 बकरियां या 5 भेड़ें एक खेत को 54 दिनों में चर सकती हैं, तो 6 बकरियां और 8 भेड़ें उसी खेत को कितने दिनों में चर सकती हैं?

- Ans
- 1. 10
  - 2. 12
  - 3. 15
  - 4. 8

Question ID : 264330102379

Option 1 ID : 264330401982

Option 2 ID : 264330401983

Option 3 ID : 264330401984

Option 4 ID : 264330401981

Status : Answered

Chosen Option : 2

Q.6 निम्न तालिका चार अलग-अलग क्षेत्रों की जनसंख्या और उनमें से पुरुषों, महिलाओं एवं बच्चों का प्रतिशत दर्शाती है।

क्षेत्र	जनसंख्या	पुरुष	महिलाएं	बच्चे
P	10,000	40%	40%	20%
Q	20,000	30%	40%	30%
R	16,000	50%	30%	20%
S	18,000	45%	35%	20%

क्षेत्र P और Q मिलाकर बच्चों की कुल संख्या कितनी है?

- Ans
- 1. 9000
  - 2. 8000
  - 3. 6000
  - 4. 7000

Question ID : 264330167249

Option 1 ID : 264330655994

Option 2 ID : 264330655993

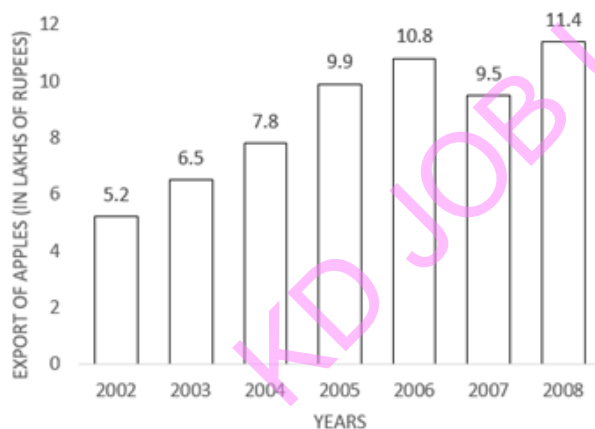
Option 3 ID : 264330655991

Option 4 ID : 264330655992

Status : Answered

Chosen Option : 2

Q.7 दिए गए ग्राफ का ध्यानपूर्वक अध्ययन कीजिए, और निम्नलिखित प्रश्न का उत्तर दीजिए।



Export of Apples (in lakhs of Rupees) = सेब का निर्यात (लाख रूपये में)

Years = वर्ष

किस वर्ष सेब के निर्यात में पिछले वर्ष सेब के निर्यात की तुलना में अधिकतम प्रतिशत वृद्धि हुई?

- Ans
- 1. 2008
  - 2. 2006
  - 3. 2003
  - 4. 2005

Question ID : 264330165428

Option 1 ID : 264330648792

Option 2 ID : 264330648793

Option 3 ID : 264330648791

Option 4 ID : 264330648794

Status : Answered

Chosen Option : 4

Q.8

यदि  $\tan A = \frac{4}{3}$ ,  $0 \leq A \leq 90^\circ$  है, तो  $\sin A$  का मान क्या होगा?

Ans

✗ 1.  $\frac{3}{4}$

✗ 2.  $\frac{3}{5}$

✓ 3.  $\frac{4}{5}$

✗ 4. 1

Question ID : 264330157755

Option 1 ID : 264330618381

Option 2 ID : 264330618380

Option 3 ID : 264330618379

Option 4 ID : 264330618382

Status : Not Answered

Chosen Option : --

Q.9 एक टूरिस्ट वैन देहरादून से मसूरी तक 35 km की दूरी 36 km/h की औसत चाल से तय करती है, और 60 km/h की चाल से वापस आती है। इस पूरी यात्रा के लिए टूरिस्ट वैन की लगभग औसत चाल (km/h में) कितनी है?

Ans

✗ 1. 50

✗ 2. 48

✗ 3. 42

✓ 4. 45

Question ID : 264330108981

Option 1 ID : 264330428203

Option 2 ID : 264330428201

Option 3 ID : 264330428204

Option 4 ID : 264330428202

Status : Answered

Chosen Option : 4

Q.10 यदि एक ट्रक 1 km के लिए 30 km/h की स्थिर चाल से चलता है, और अगले 1 km के लिए 45 km/h की स्थिर चाल से चलता है। ट्रक की औसत चाल ज्ञात कीजिए।

Ans

✗ 1. 32 km/h

✗ 2. 38 km/h

✗ 3. 34 km/h

✓ 4. 36 km/h

Question ID : 264330104412

Option 1 ID : 264330409949

Option 2 ID : 264330409952

Option 3 ID : 264330409950

Option 4 ID : 264330409951

Status : Answered

Chosen Option : 4

Q.11 किसी संख्या में पहले 10% की वृद्धि की जाती है, और फिर 20% की वृद्धि की जाती है। इस प्रकार प्राप्त संख्या में अब 12% की कमी की जाती है। मूल संख्या में निवल वृद्धि या कमी का प्रतिशत कितना है?

- Ans
- 1. 12.12% वृद्धि
  - 2. 11.11% कमी
  - 3. 16.16% वृद्धि
  - 4. 14.14% कमी

Question ID : 264330158379  
Option 1 ID : 264330620875  
Option 2 ID : 264330620876  
Option 3 ID : 264330620878  
Option 4 ID : 264330620877  
Status : Answered  
Chosen Option : 2

Q.12 13 cm और 15 cm त्रिज्या वाले दो वृत्त, बिंदुओं A और B पर एक-दूसरे को प्रतिच्छेदित करते हैं। यदि उभयनिष्ठ जीवा की लंबाई 12 cm हो, तो उनके केंद्रों के बीच की दूरी कितनी है?

- Ans
- 1.  $\sqrt{145} + \sqrt{169}$
  - 2.  $\sqrt{145} + \sqrt{184}$
  - 3.  $\sqrt{131} + \sqrt{181}$
  - 4.  $\sqrt{133} + \sqrt{189}$

Question ID : 264330168751  
Option 1 ID : 264330661815  
Option 2 ID : 264330661818  
Option 3 ID : 264330661816  
Option 4 ID : 264330661817  
Status : Not Answered  
Chosen Option : --

Q.13 एक व्यक्ति अपने वेतन का 72% खर्च कर देता है, और प्रति महीने ₹5,740 की बचत करता है। उसके वार्षिक वेतन का 10% कितना (₹में) होगा?

- Ans
- 1. ₹20500
  - 2. ₹28400
  - 3. ₹21600
  - 4. ₹24600

Question ID : 264330145060  
Option 1 ID : 264330568495  
Option 2 ID : 264330568497  
Option 3 ID : 264330568496  
Option 4 ID : 264330568498  
Status : Answered  
Chosen Option : 4

Q.14 A, B और C एक कार्य को क्रमशः 20 दिन, 30 दिन और 60 दिन में पूरा कर सकते हैं। यदि A प्रतिदिन कार्य करता है, और प्रत्येक तीसरे दिन B और C भी A के साथ कार्य करते हैं, तो कार्य कितने दिनों में पूरा हो जाएगा?

- Ans  1. 15  
 2. 12  
 3. 21  
 4. 18

Question ID : 26433082412  
Option 1 ID : 264330323482  
Option 2 ID : 264330323481  
Option 3 ID : 264330323484  
Option 4 ID : 264330323483  
Status : Answered  
Chosen Option : 1

Q.15 यदि दो संख्याओं का गुणनफल 726 है, और उनका महत्तम समापवर्तक (HCF) 11 है, तो उनका लघुत्तम समापवर्तक (LCM) क्या होगा?

- Ans  1. 76  
 2. 66  
 3. 68  
 4. 58

Question ID : 264330145032  
Option 1 ID : 264330568383  
Option 2 ID : 264330568384  
Option 3 ID : 264330568386  
Option 4 ID : 264330568385  
Status : Answered  
Chosen Option : 2

Q.16 15, 24, 35 और 54 का लघुत्तम समापवर्तक (LCM) ज्ञात कीजिए।

- Ans  1. 5670  
 2. 7650  
 3. 6570  
 4. 7560

Question ID : 26433073065  
Option 1 ID : 264330286454  
Option 2 ID : 264330286452  
Option 3 ID : 264330286455  
Option 4 ID : 264330286453  
Status : Answered  
Chosen Option : 4

Q.17 यदि  $\theta$  एक न्यून कोण है, और  $\sin \theta + \operatorname{cosec} \theta = 2$  है, तो  $\sin^5 \theta + \operatorname{cosec}^5 \theta$  का मान ज्ञात कीजिए।

Ans  1. 4

2. 2

3. 10

4. 5

Question ID : 264330145132

Option 1 ID : 264330568784

Option 2 ID : 264330568783

Option 3 ID : 264330568786

Option 4 ID : 264330568785

Status : Not Answered

Chosen Option : --

Q.18 चार अंकों की वह बड़ी से बड़ी संख्या ज्ञात कीजिए, जो 17 और 36 से पूर्णतः विभाज्य है।

Ans  1. 7956

2. 9180

3. 9792

4. 8568

Question ID : 26433091502

Option 1 ID : 264330359376

Option 2 ID : 264330359374

Option 3 ID : 264330359375

Option 4 ID : 264330359373

Status : Answered

Chosen Option : 3

Q.19 यदि किसी समानुपात के पहले तीन पद 42, 36 और 35 हैं, तो चौथा पद क्या होगा?

Ans  1. 30

2. 32

3. 27

4. 28

Question ID : 264330145045

Option 1 ID : 264330568436

Option 2 ID : 264330568435

Option 3 ID : 264330568438

Option 4 ID : 264330568437

Status : Answered

Chosen Option : 1

Q.20 दो संख्याएं 5 : 3 के अनुपात में हैं, और इन दोनों संख्याओं के बीच का अंतर 34 है। दोनों संख्याओं में से छोटी संख्या ज्ञात करें।

Ans  1. 34

2. 68

3. 85

4. 51

Question ID : 264330104188

Option 1 ID : 264330409055

Option 2 ID : 264330409056

Option 3 ID : 264330409054

Option 4 ID : 264330409053

Status : Answered

Chosen Option : 4

Q.21 एक वस्तु के मूल्य में 70% की वृद्धि की जाती है, और फिर इस अंकित मूल्य पर 5% और 20% की योजनागत छूट प्रदान की जाती है। यदि मूल्य का भुगतान नकद में किया जाता है, और 20% की अतिरिक्त छूट दी जाती है, तो उसका प्रतिशत लाभ कितना होगा?

- Ans
- 1. 3.25%
  - 2. 2.25%
  - 3. 3.36%
  - 4. 4.36%

Question ID : 264330104401

Option 1 ID : 264330409906

Option 2 ID : 264330409905

Option 3 ID : 264330409907

Option 4 ID : 264330409908

Status : Answered

Chosen Option : 4

Q.22  $(\tan^2 \theta + \tan^4 \theta)$  का मान ज्ञात कीजिए।

- Ans
- 1.  $\sec^2 \theta - \sec^4 \theta$
  - 2.  $\sec^4 \theta - \sec^2 \theta$
  - 3.  $\sec^4 \theta + \sec^2 \theta$
  - 4.  $\cot^2 \theta - \tan^2 \theta$

Question ID : 264330130397

Option 1 ID : 264330510699

Option 2 ID : 264330510701

Option 3 ID : 264330510700

Option 4 ID : 264330510702

Status : Not Answered

Chosen Option : --

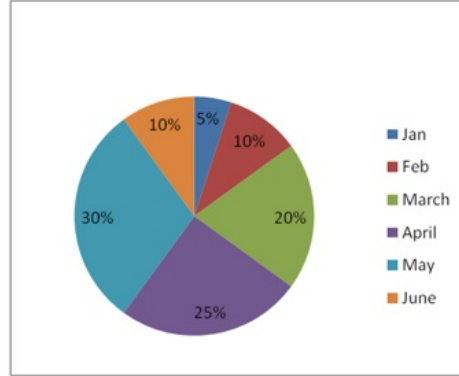
KD JOB UPDATES



Q.23 दार्जिलिंग में दो देशों A और B से पर्यटक आते हैं। वर्ष के पहले छह महीनों में पर्यटकों के आगमन का प्रतिशत-वार वितरण नीचे दिया गया है।

पर्यटकों की कुल संख्या = 60000

माह	अनुपात (A : B)
जनवरी	5:7
फरवरी	6:7
मार्च	3:2
अप्रैल	8:7
मई	4:5
जून	3:4



Jan = जनवरी Feb = फरवरी March = मार्च April = अप्रैल May = मई  
June = जून

मार्च और अप्रैल माह के दौरान देश A से आने वाले पर्यटकों की संख्या का अनुपात ज्ञात कीजिए।

- Ans
- 1. 4:7
  - 2. 7:10
  - 3. 3:7
  - 4. 9:10

Question ID : 264330158398

Option 1 ID : 264330620954

Option 2 ID : 264330620952

Option 3 ID : 264330620953

Option 4 ID : 264330620951

Status : Answered

Chosen Option : 4

Q.24 निम्न आँकड़े एक राज्य की एक निश्चित 4-वर्षीय योजना (2018-2022) में वर्ष-वार परिव्यय (लाख रुपये में) प्रदान करते हैं।

वर्ष	स्वास्थ्य	आवास	परिवहन	शिक्षा
2018-2019	6200	6500	7100	8000
2019-2020	7000	6600	7200	8100
2020-2021	7300	6800	7400	8200
2021-2022	7400	7000	7500	8400

शिक्षा परिव्यय में 2018-2019 की तुलना में 2020-2021 के दौरान प्रतिशत वृद्धि कितनी थी?

- Ans
- 1. 3.2%
  - 2. 2.5%
  - 3. 2.8%
  - 4. 2.0%

Question ID : 264330167248

Option 1 ID : 264330655990

Option 2 ID : 264330655988

Option 3 ID : 264330655989

Option 4 ID : 264330655987

Status : Answered

Chosen Option : 2

Q.25 यदि  $\cos \theta - \sin \theta = \sqrt{2} \sin \theta$  है, तो  $(\cos \theta + \sin \theta)$  का मान ज्ञात कीजिए।

- Ans
- 1.  $-\sqrt{2} \sin \theta$
  - 2.  $\sqrt{2} \tan \theta$
  - 3.  $\sqrt{2} \cos \theta$
  - 4.  $-\sqrt{2} \cos \theta$

Question ID : 264330158303

Option 1 ID : 264330620573

Option 2 ID : 264330620574

Option 3 ID : 264330620571

Option 4 ID : 264330620572

Status : Not Answered

Chosen Option : --

Q.26 यदि किसी समकोण त्रिभुज का कर्ण 29 cm है, और अन्य दो भुजाओं का योग 41 cm हो, तो अन्य दो भुजाओं के बीच का अंतर ज्ञात कीजिए।

- Ans
- 1. 2 cm
  - 2. 5 cm
  - 3. 1 cm
  - 4. 10 cm

Question ID : 264330165659  
Option 1 ID : 264330649717  
Option 2 ID : 264330649716  
Option 3 ID : 264330649718  
Option 4 ID : 264330649715  
Status : Not Answered  
Chosen Option : --

Q.27 एक बेईमान डीलर अपने सामान को 22% हानि पर बेचने की घोषणा करता है, लेकिन 35% हल्के बाटों का उपयोग करता है। उसके लाभ या हानि का प्रतिशत ज्ञात कीजिए।

- Ans
- 1. 13% हानि
  - 2. 13% लाभ
  - 3. 20% हानि
  - 4. 20% लाभ

Question ID : 264330131522  
Option 1 ID : 264330515194  
Option 2 ID : 264330515191  
Option 3 ID : 264330515192  
Option 4 ID : 264330515193  
Status : Answered  
Chosen Option : 4

Q.28 किसी शहर की जनसंख्या 3,52,314 है। यह प्रति वर्ष 15% वार्षिक दर से बढ़ती है। 2 वर्ष पूर्व इसकी जनसंख्या ज्ञात करें।

- Ans
- 1. 2,56,400
  - 2. 2,66,400
  - 3. 3,06,360
  - 4. 3,02,400

Question ID : 264330103387  
Option 1 ID : 264330405853  
Option 2 ID : 264330405855  
Option 3 ID : 264330405854  
Option 4 ID : 264330405856  
Status : Answered  
Chosen Option : 3

Q.29 ₹3,800 के अंकित मूल्य वाली एक वस्तु को  $y\%$  की छूट देने के बाद ₹3,496 में बेचा गया।  $y$  का मान क्या था?

- Ans  1.8%  
 2.7%  
 3.85%  
 4.75%

Question ID : 264330131158  
Option 1 ID : 264330513745  
Option 2 ID : 264330513743  
Option 3 ID : 264330513746  
Option 4 ID : 264330513744  
Status : Answered  
Chosen Option : 1

Q.30 दो संख्याएं 3 : 4 के अनुपात में हैं। उनके महत्तम समापवर्तक (HCF) और लघुत्तम समापवर्त्य (LCM) का गुणनफल 2700 है। उन संख्याओं का योगफल ज्ञात कीजिए।

- Ans  1.45  
 2.60  
 3.105  
 4.15

Question ID : 26433063995  
Option 1 ID : 264330250574  
Option 2 ID : 264330250575  
Option 3 ID : 264330250572  
Option 4 ID : 264330250573  
Status : Answered  
Chosen Option : 3

Q.31 यदि  $\frac{x}{y} + \frac{y}{x} = 1$  और  $x + y = 2$  है, तो  $x^3 + y^3$  का मान क्या होगा?

- Ans  1.2  
 2.0  
 3.3  
 4.1

Question ID : 264330157775  
Option 1 ID : 264330618461  
Option 2 ID : 264330618459  
Option 3 ID : 264330618462  
Option 4 ID : 264330618460  
Status : Answered  
Chosen Option : 2

Q.32 45 cm ऊंचे एक ठोस लंब-वृत्तीय शंकु के छिन्नक के सिरों की त्रिज्याएं 28 cm और 7 cm हैं। यदि इस छिन्नक को पिघलाकर एक ठोस लंब-वृत्तीय बेलन बनाया जाता है, जिसके आधार की त्रिज्या और ऊंचाई का अनुपात 3 : 5 है, तो इस बेलन का वक्र पृष्ठीय क्षेत्रफल (cm<sup>2</sup> में) ज्ञात करें। [ $\pi = \frac{22}{7}$  का प्रयोग करें।]

- Ans
- 1. 4640
  - 2. 4580
  - 3. 4620
  - 4. 4610

Question ID : 264330122878  
Option 1 ID : 264330481579  
Option 2 ID : 264330481581  
Option 3 ID : 264330481582  
Option 4 ID : 264330481580  
Status : Not Answered  
Chosen Option : --

Q.33 यदि एक शंकु की ऊंचाई 7 cm है, और इसके वृत्ताकार आधार का व्यास 12 cm है, तो इसका आयतन क्या होगा? (निकटतम पूर्णांक तक)

- Ans
- 1. 264 cm<sup>3</sup>
  - 2. 284 cm<sup>3</sup>
  - 3. 274 cm<sup>3</sup>
  - 4. 254 cm<sup>3</sup>

Question ID : 264330103751  
Option 1 ID : 264330407310  
Option 2 ID : 264330407312  
Option 3 ID : 264330407311  
Option 4 ID : 264330407309  
Status : Answered  
Chosen Option : 1

Q.34 दो संख्याओं के महत्तम समापवर्तक (HCF) और लघुत्तम समापवर्त्य (LCM) क्रमशः 5 और 175 है। यदि दोनों संख्याओं का अनुपात 5 : 7 है, तो दोनों संख्याओं में से बड़ी संख्या \_\_\_\_\_ है।

- Ans
- 1. 25
  - 2. 75
  - 3. 35
  - 4. 45

Question ID : 264330102313  
Option 1 ID : 264330401717  
Option 2 ID : 264330401720  
Option 3 ID : 264330401718  
Option 4 ID : 264330401719  
Status : Answered  
Chosen Option : 3

**Q.35** PQR, एक वृत्त के अंतर्गत खींचा गया (inscribed) एक समबाहु त्रिभुज है। S, चाप QR पर स्थित कोई बिंदु है।  $\angle PSQ$  का मान ज्ञात कीजिए।

- Ans**  1.  $15^\circ$   
 2.  $30^\circ$   
 3.  $60^\circ$   
 4.  $20^\circ$

Question ID : 264330165662  
Option 1 ID : 264330649730  
Option 2 ID : 264330649727  
Option 3 ID : 264330649728  
Option 4 ID : 264330649729  
Status : Not Answered  
Chosen Option : --

**Q.36** राजेश ने ₹10,000 की राशि को विभाजित करके क्रमशः 8% और 10% की साधारण ब्याज दरों पर दो अलग-अलग निवेश योजनाओं, A और B में निवेश किया। यदि 2 वर्षों में अर्जित कुल ब्याज ₹1,680 है, तो योजना A में निवेश की गई राशि ज्ञात कीजिए।

- Ans**  1. ₹4,000  
 2. ₹8,000  
 3. ₹6,000  
 4. ₹2,000

Question ID : 264330104395  
Option 1 ID : 264330409882  
Option 2 ID : 264330409884  
Option 3 ID : 264330409883  
Option 4 ID : 264330409881  
Status : Answered  
Chosen Option : 2

**Q.37** एक त्रिभुज की भुजाएं 5 : 12 : 13 के अनुपात हैं, और इसका परिमाप 90 cm है। इसका क्षेत्रफल ( $\text{cm}^2$  में) ज्ञात कीजिए।

- Ans**  1. 150  
 2. 60  
 3. 270  
 4. 30

Question ID : 264330145113  
Option 1 ID : 264330568707  
Option 2 ID : 264330568710  
Option 3 ID : 264330568709  
Option 4 ID : 264330568708  
Status : Answered  
Chosen Option : 3

Q.38 दो बेलनों की त्रिज्याओं का अनुपात 4 : 5 है, और उनकी ऊँचाइयों का अनुपात 5 : 2 है। उनके आयतनों का अनुपात क्या है?

- Ans
- 1. 2 : 1
  - 2. 9 : 4
  - 3. 9 : 7
  - 4. 8 : 5

Question ID : 264330145138

Option 1 ID : 264330568809

Option 2 ID : 264330568807

Option 3 ID : 264330568810

Option 4 ID : 264330568808

Status : Answered

Chosen Option : 4

Q.39 एक व्यक्ति 40 km दौड़ता है। पहले 10 km में उसके द्वारा लिया गया समय, दूसरे 10 km में उसके द्वारा लिए गए समय से दोगुना है। तीसरे 10 km में लिया गया समय, चौथे 10 km में लिए गए समय का आधा है, और चौथे 10 km में लिया गया समय, पहले 10 km में लिए गए समय के बराबर है। यदि पहले 10 km में उसकी चाल 40 km/h है, तो 40 km के लिए उसकी औसत चाल कितनी होगी?

- Ans
- 1.  $\frac{70}{3}$  km/h
  - 2. 40 km/h
  - 3.  $\frac{160}{3}$  km/h
  - 4. 50 km/h

Question ID : 26433081725

Option 1 ID : 264330320734

Option 2 ID : 264330320735

Option 3 ID : 264330320736

Option 4 ID : 264330320733

Status : Answered

Chosen Option : 3

Q.40 जोनाथन ने 3 वर्ष पहले वार्षिक चक्रवृद्धि आधार पर गणनीय 10% वार्षिक ब्याज की दर पर एक राशि 5 वर्षों के लिए उधार ली, इस अवधि के अंत में भुगतान की जाने वाली राशि ₹1,61,051 थी। हालांकि, कोई पूर्वभुगतान दंड (प्री-पेमेंट पेनल्टी) नहीं था, और जोनाथन को अभी कुछ बोनस भुगतान प्राप्त हुआ, जिससे उसने अपना ऋण चुकाने का फैसला किया है। जोनाथन को अभी कितना भुगतान करना होगा?

- Ans
- 1. ₹1,33,200
  - 2. ₹1,33,000
  - 3. ₹1,32,900
  - 4. ₹1,33,100

Question ID : 264330145054

Option 1 ID : 264330568474

Option 2 ID : 264330568471

Option 3 ID : 264330568472

Option 4 ID : 264330568473

Status : Not Answered

Chosen Option : --

Q.41  $11 \times 11 + 11 \div 11 - 11 \times 11 + 11 + 11 \times 11 - 11 - 11 \times 11$  का मान क्या है?

- Ans
- 1. 0
  - 2. 121
  - 3. 11
  - 4. 1

Question ID : 26433072965  
Option 1 ID : 264330286052  
Option 2 ID : 264330286055  
Option 3 ID : 264330286054  
Option 4 ID : 264330286053  
Status : Answered  
Chosen Option : 4

Q.42 दो त्रिभुजों के क्षेत्रफलों का अनुपात 4 : 3 है, और उनकी ऊँचाइयों का अनुपात 6 : 5 है। उनके आधारों का अनुपात ज्ञात कीजिए।

- Ans
- 1. 9 : 10
  - 2. 6 : 5
  - 3. 5 : 6
  - 4. 10 : 9

Question ID : 264330157742  
Option 1 ID : 264330618328  
Option 2 ID : 264330618329  
Option 3 ID : 264330618330  
Option 4 ID : 264330618327  
Status : Answered  
Chosen Option : 1


Q.43 पहली कमीज को दूसरी कमीज के विक्रय मूल्य के दोगुने पर बेचा जाता है। पहली कमीज को 8% लाभ पर, और दूसरी कमीज को 3% हानि पर बेचा जाता है। कमीजों पर कुल प्रतिशत लाभ कितना है (दो दशमलव स्थान तक पूर्णांकित)?

- Ans
- 1. 4.86%
  - 2. 4.07%
  - 3. 4.60%
  - 4. 3.86%

Question ID : 264330102065  
Option 1 ID : 264330400768  
Option 2 ID : 264330400767  
Option 3 ID : 264330400766  
Option 4 ID : 264330400765  
Status : Answered  
Chosen Option : 3



Q.44 निम्न पाई-चार्ट राम द्वारा पांच अलग-अलग विषयों में प्राप्त अंकों का (प्रतिशत में) बंटन दर्शाता है।



Social = समाज-शास्त्र

Hindi = हिन्दी

English = अंग्रेजी

Maths = गणित

Science = विज्ञान

गणित के केंद्रीय कोण और विज्ञान के केंद्रीय कोण का अनुपात क्या है?

Ans  1. 3 : 5

2. 2 : 3

3. 5 : 2

4. 4 : 3

Question ID : 264330158623

Option 1 ID : 264330621852

Option 2 ID : 264330621853

Option 3 ID : 264330621854

Option 4 ID : 264330621851

Status : Not Answered

Chosen Option : --

KD JOB UPDATES

Q.45 दिए गए डेटा का अध्ययन कीजिए और नीचे दिए गए प्रश्न का उत्तर दीजिए।

तालिका चार अलग-अलग शहरों से एक प्रवेश परीक्षा में उपस्थित होने वाले उम्मीदवारों की संख्या (लाख में) और उसमें उत्तीर्ण और अनुत्तीर्ण हुए उम्मीदवारों का अनुपात दर्शाती है।

शहर	A	B	C	D
उम्मीदवारों की संख्या	2.15	1.14	1.56	2.35

शहर के भीतर उत्तीर्ण और अनुत्तीर्ण हुए उम्मीदवारों का अनुपात

शहर	उत्तीर्ण	अनुत्तीर्ण
A	4	2
B	5	3
C	6	4
D	4	6

शहर D में अनुत्तीर्ण हुए उम्मीदवारों की संख्या (लाख में) कितनी है?

- Ans
- 1. 1.70
  - 2. 1.41
  - 3. 1.25
  - 4. 1.85

Question ID : 264330158258

Option 1 ID : 264330620392

Option 2 ID : 264330620393

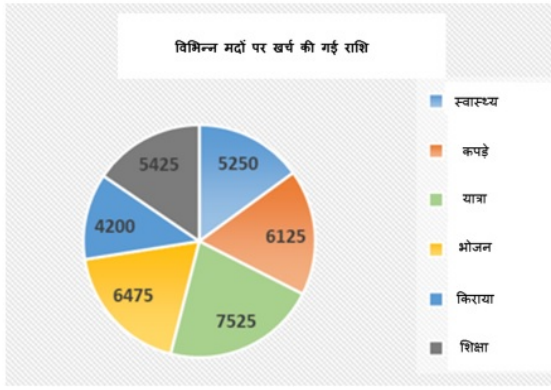
Option 3 ID : 264330620394

Option 4 ID : 264330620391

Status : Not Answered

Chosen Option : --

Q.46 दिए गए पाई चार्ट में शिक्षा पर खर्च किए गए व्यय का संगत केंद्रीय कोण क्या है?



Ans ✓ 1.  $55.8^\circ$

✗ 2.  $52^\circ$

✗ 3.  $42^\circ$

✗ 4.  $55.2^\circ$

Question ID : 26433081650

Option 1 ID : 264330320435

Option 2 ID : 264330320433

Option 3 ID : 264330320436

Option 4 ID : 264330320434

Status : Not Answered

Chosen Option : --

Q.47 यदि  $a + b = 10$  और  $ab = 6$ , तो  $a^3 + b^3$  का मान क्या होगा?

Ans ✓ 1. 820

✗ 2. 800

✗ 3. 840

✗ 4. 860

Question ID : 264330157766

Option 1 ID : 264330618425

Option 2 ID : 264330618426

Option 3 ID : 264330618424

Option 4 ID : 264330618423

Status : Not Answered

Chosen Option : --

Q.48 P, Q और R, जब अलग-अलग कार्य करते हैं, तो किसी कार्य को क्रमशः 36 दिन, 48 दिन और 144 दिन में पूरा कर सकते हैं। P, Q और R एकसाथ मिलकर कार्य करना शुरू करते हैं। P कार्य पूरा होने से 12 दिन पहले कार्य छोड़ देता है, और Q कार्य पूरा होने से 8 दिन पहले कार्य छोड़ देता है। R कार्य के आरंभ से अंत तक कार्य करता है। कार्य पूरा करने में लगने वाले दिनों की कुल संख्या ज्ञात करें।

Ans ✗ 1. 24

✓ 2. 27

✗ 3. 25

✗ 4. 30

Question ID : 264330114534

Option 1 ID : 264330450221

Option 2 ID : 264330450223

Option 3 ID : 264330450222

Option 4 ID : 264330450224

Status : Not Answered

Chosen Option : --

Q.49 माना, शांत जल में नाव की चाल 17 km/h और धारा की चाल 5 km/h है। नाव को धारा की दिशा में 110 km जाने में कितना समय लगता है?

- Ans  1. 5 घंटे  
 2. 5.5 घंटे  
 3. 4.5 घंटे  
 4. 6 घंटे

Question ID : 264330145028  
Option 1 ID : 264330568369  
Option 2 ID : 264330568370  
Option 3 ID : 264330568367  
Option 4 ID : 264330568368  
Status : Answered  
Chosen Option : 1

Q.50  $\frac{0.04}{0.05}$  of  $\left(3\frac{1}{3} - 2\frac{1}{2}\right) \div \frac{1}{2}$  of  $1\frac{1}{4}$  का मान ज्ञात कीजिए।  
 $\frac{1}{3} + \frac{1}{5}$  of  $\frac{1}{9}$

- Ans  1. 5  
 2. 0.3  
 3. 3  
 4. 0.03

Question ID : 26433063988  
Option 1 ID : 264330250547  
Option 2 ID : 264330250544  
Option 3 ID : 264330250545  
Option 4 ID : 264330250546  
Status : Not Answered  
Chosen Option : --

Section : English Comprehension

Q.1 Select the most appropriate meaning of the given idiom.

An arm and a leg

- Ans  1. To ask for too much  
 2. To be lost and bewildered  
 3. A large amount of money  
 4. Everything is ready

Question ID : 26433092076  
Option 1 ID : 264330361626  
Option 2 ID : 264330361628  
Option 3 ID : 264330361627  
Option 4 ID : 264330361625  
Status : Answered  
Chosen Option : 2

**Q.2** Parts of the following sentence have been given as options. One of them may contain an error. Select the part that contains the error from the given options. If you don't find any error, mark 'No error' as your answer.

We feed the horse oats for a week because it had eaten all the hay.

- Ans
- 1. it had eaten all the hay
  - 2. We feed the horse oats
  - 3. for a week because
  - 4. No error

Question ID : 26433090495  
Option 1 ID : 264330355431  
Option 2 ID : 264330355429  
Option 3 ID : 264330355430  
Option 4 ID : 264330355432  
Status : Answered  
Chosen Option : 1

**Q.3** Select the INCORRECTLY spelt word.

- Ans
- 1. Interrogate
  - 2. Assasinate
  - 3. Alienate
  - 4. Deserve

Question ID : 26433089088  
Option 1 ID : 264330349875  
Option 2 ID : 264330349874  
Option 3 ID : 264330349876  
Option 4 ID : 264330349873  
Status : Answered  
Chosen Option : 3

**Q.4** Select the most appropriate meaning of the underlined idiom.  
We dodged a bullet when we didn't fall for the agents' words.

- Ans
- 1. To give something a try
  - 2. To be out of your comfort zone
  - 3. To narrowly avoid situation
  - 4. To start performing better

Question ID : 264330120619  
Option 1 ID : 264330472715  
Option 2 ID : 264330472718  
Option 3 ID : 264330472717  
Option 4 ID : 264330472716  
Status : Answered  
Chosen Option : 2

**Q.5** Select the INCORRECTLY spelt word.

- Ans  1. Unveil  
 2. Serene  
 3. Comparision  
 4. Triumph

Question ID : 26433091837  
Option 1 ID : 264330360687  
Option 2 ID : 264330360685  
Option 3 ID : 264330360688  
Option 4 ID : 264330360686  
Status : Answered  
Chosen Option : 3

**Q.6** Select the most appropriate synonym of the given word.  
Abandon

- Ans  1. Perish  
 2. Retain  
 3. Prolong  
 4. Desert

Question ID : 264330117331  
Option 1 ID : 264330461380  
Option 2 ID : 264330461378  
Option 3 ID : 264330461377  
Option 4 ID : 264330461379  
Status : Answered  
Chosen Option : 2

**Q.7** Select the most appropriate idiomatic expression that can substitute the underlined segment in the given sentence.  
Both Nitin and Uday are of the same interests.

- Ans  1. blowing smoke without fire  
 2. different kettles of fish  
 3. birds of the same feather  
 4. under the weather

Question ID : 264330134223  
Option 1 ID : 264330525887  
Option 2 ID : 264330525889  
Option 3 ID : 264330525888  
Option 4 ID : 264330525890  
Status : Answered  
Chosen Option : 1

**Q.8** Select the most appropriate meaning of the underlined idiom.  
More people in Turkey are on the breadline now than thirty years ago.

- Ans**  1. Be very poor  
 2. Earn a lot of money  
 3. Be very expensive  
 4. Are well educated

Question ID : 264330132898  
Option 1 ID : 264330520654  
Option 2 ID : 264330520653  
Option 3 ID : 264330520651  
Option 4 ID : 264330520652  
Status : Answered  
Chosen Option : 3

**Q.9** Select the most appropriate synonym of the given word.

**Haphazard**

- Ans**  1. Random  
 2. Confident  
 3. Sociable  
 4. Aggressive

Question ID : 264330163333  
Option 1 ID : 264330640634  
Option 2 ID : 264330640631  
Option 3 ID : 264330640633  
Option 4 ID : 264330640632  
Status : Answered  
Chosen Option : 4

**Q.10** Select the option that can be used as a one-word substitute for the given group of words.

**Fear of water**

- Ans**  1. Botanophobia  
 2. Bibliophobia  
 3. Microphobia  
 4. Hydrophobia

Question ID : 26433088755  
Option 1 ID : 264330348576  
Option 2 ID : 264330348575  
Option 3 ID : 264330348573  
Option 4 ID : 264330348574  
Status : Answered  
Chosen Option : 4

**Q.11 Select the INCORRECTLY spelt word.**

- Ans**  1. Accomplish  
 2. Allure  
 3. Agregate  
 4. Adjacent

Question ID : 264330122278  
Option 1 ID : 264330479241  
Option 2 ID : 264330479242  
Option 3 ID : 264330479239  
Option 4 ID : 264330479240  
Status : Answered  
Chosen Option : 4

**Q.12 Select the most appropriate meaning of the given idiom.  
The best of both worlds**

- Ans**  1. Better to show than tell  
 2. An ideal situation  
 3. Good things come after bad things  
 4. Make people comfortable

Question ID : 264330163403  
Option 1 ID : 264330640893  
Option 2 ID : 264330640891  
Option 3 ID : 264330640894  
Option 4 ID : 264330640892  
Status : Answered  
Chosen Option : 2

**Q.13 Select the most appropriate synonym of the given word.  
Justifiable**

- Ans**  1. Neutral  
 2. Maintainable  
 3. Indefensible  
 4. Reasonable

Question ID : 264330164162  
Option 1 ID : 264330643902  
Option 2 ID : 264330643901  
Option 3 ID : 264330643899  
Option 4 ID : 264330643900  
Status : Answered  
Chosen Option : 3



Q.14 Select the most appropriate meaning of the given idiom.

Left out in the cold

- Ans
- 1. To serve stale and cold food
  - 2. To leave in hurry
  - 3. To bear extreme weather condition
  - 4. To be ignored

Question ID : 264330163406  
Option 1 ID : 264330640906  
Option 2 ID : 264330640904  
Option 3 ID : 264330640905  
Option 4 ID : 264330640903  
Status : Answered  
Chosen Option : 2

Q.15 Select the most appropriate meaning of the given idiom.

A leopard can't change his spots

- Ans
- 1. You cannot change who you are
  - 2. A visual presentation is far more descriptive than words
  - 3. Something good that isn't recognised at first
  - 4. Someone who is cherished above all others

Question ID : 264330163402  
Option 1 ID : 264330640890  
Option 2 ID : 264330640887  
Option 3 ID : 264330640888  
Option 4 ID : 264330640889  
Status : Answered  
Chosen Option : 4

Q.16 The following sentence has been split into four segments. Identify the segment that contains a grammatical error.  
They will not attend / the event / as they're going / away at end of April.

- Ans
- 1. They will not attend
  - 2. the event
  - 3. away at end of April.
  - 4. as they're going

Question ID : 264330120573  
Option 1 ID : 264330472537  
Option 2 ID : 264330472538  
Option 3 ID : 264330472536  
Option 4 ID : 264330472535  
Status : Answered  
Chosen Option : 4

Q.17 Select the option that can be used as a one-word substitute for the underlined group of words.

Ms. Scarlet was indifferent to pain and pleasure, she never complained.

- Ans
- 1. Hypocrite
  - 2. Versatile
  - 3. Stoic
  - 4. Amateur

Question ID : 26433088836  
Option 1 ID : 264330348897  
Option 2 ID : 264330348900  
Option 3 ID : 264330348899  
Option 4 ID : 264330348898  
Status : Answered  
Chosen Option : 2

Q.18 Select the INCORRECTLY spelt word from the underlined words in the following sentence.

This was a blatent disregard to the advisory by the host against it and in violation of norms of the meeting.

- Ans
- 1. blatent
  - 2. advisory
  - 3. disregard
  - 4. violation

Question ID : 264330141156  
Option 1 ID : 264330552967  
Option 2 ID : 264330552969  
Option 3 ID : 264330552968  
Option 4 ID : 264330552970  
Status : Answered  
Chosen Option : 4

Q.19 You are preparing a speech for the upcoming function. Select a synonym for the highlighted word to make it better.

Despite the advancement in technology many rural areas in developing countries still lack access to basic necessities.

- Ans
- 1. Avenue
  - 2. Apathy
  - 3. Desist
  - 4. Disguise

Question ID : 264330122810  
Option 1 ID : 264330481308  
Option 2 ID : 264330481309  
Option 3 ID : 264330481310  
Option 4 ID : 264330481307  
Status : Answered  
Chosen Option : 1

**Q.20** Select the most appropriate ANTONYM of the given word.  
Damp

- Ans  1. Soaked  
 2. Tropical  
 3. Arid  
 4. Misty

Question ID : 264330165261  
Option 1 ID : 264330648137  
Option 2 ID : 264330648135  
Option 3 ID : 264330648136  
Option 4 ID : 264330648138  
Status : Answered  
Chosen Option : 2

**Q.21** Select the most appropriate one-word substitution of the given group of words.

A person engaged in or trained for spaceflight.

- Ans  1. Astute  
 2. Astronaut  
 3. Astronomer  
 4. Atrocious

Question ID : 26433090849  
Option 1 ID : 264330356806  
Option 2 ID : 264330356807  
Option 3 ID : 264330356808  
Option 4 ID : 264330356805  
Status : Answered  
Chosen Option : 3

**Q.22** Select the most appropriate ANTONYM of the word 'moving' in the given sentence and choose the correct option.

The old grandfather clock chimed loudly, marking the passage of time with its steady tick-tock.

- Ans  1. Marking  
 2. Steady  
 3. Passage  
 4. Chimed

Question ID : 264330163539  
Option 1 ID : 264330641412  
Option 2 ID : 264330641414  
Option 3 ID : 264330641413  
Option 4 ID : 264330641411  
Status : Answered  
Chosen Option : 4

**Q.23** Select the word which means the same as the group of words underlined in the given sentence.

The pandemic deeply affected small business owners, as they have no means of livelihood left.

- Ans  1. Pauper  
 2. Mason  
 3. Unemployed  
 4. Worker

Question ID : 26433089713  
Option 1 ID : 264330352348  
Option 2 ID : 264330352345  
Option 3 ID : 264330352347  
Option 4 ID : 264330352346  
Status : Answered  
Chosen Option : 3

**Q.24** Select the option that can be used as a one-word substitute for the underlined group of words.

How did you become interested in learning the art of producing beautiful handwriting?

- Ans  1. Graphology  
 2. Calligraphy  
 3. Demography  
 4. Lexicography

Question ID : 26433088833  
Option 1 ID : 264330348888  
Option 2 ID : 264330348886  
Option 3 ID : 264330348887  
Option 4 ID : 264330348885  
Status : Answered  
Chosen Option : 3

**Q.25** Select the most appropriate option that can substitute the underlined segment in the given sentence. If there is no need to substitute it, select 'No substitution required'.  
Her paintings are way better then her sketches.

- Ans  1. No substitution required  
 2. off  
 3. than  
 4. more

Question ID : 26433070772  
Option 1 ID : 264330277547  
Option 2 ID : 264330277544  
Option 3 ID : 264330277546  
Option 4 ID : 264330277545  
Status : Answered  
Chosen Option : 3

Q.26 Select the most appropriate ANTONYM of the given word.

Catastrophic

- Ans
- 1. Calamity
  - 2. Fortuitous
  - 3. Sabotage
  - 4. Fiasco

Question ID : 264330163359

Option 1 ID : 264330640727

Option 2 ID : 264330640729

Option 3 ID : 264330640728

Option 4 ID : 264330640730

Status : Answered

Chosen Option : 2

Q.27 Select the most appropriate meaning of the underlined idiom.

Students often burn the midnight oil to qualify for competitive examinations.

- Ans
- 1. put the things on fire at night
  - 2. sleep well
  - 3. work until late at night
  - 4. want to be at a place full of light

Question ID : 26433099087

Option 1 ID : 264330388981

Option 2 ID : 264330388982

Option 3 ID : 264330388983

Option 4 ID : 264330388984

Status : Answered

Chosen Option : 1

Q.28 Select the most appropriate synonym of the given word.

Dreadful

- Ans
- 1. Terrible
  - 2. Feeble
  - 3. Auspicious
  - 4. Propitious

Question ID : 264330120533

Option 1 ID : 264330472382

Option 2 ID : 264330472381

Option 3 ID : 264330472380

Option 4 ID : 264330472379

Status : Answered

Chosen Option : 4

**Q.29** The following sentence has been split into four segments. Identify the segment that contains a grammatical error.

She will have participate / in the dance competition / by the time her father / returns from the tour.

- Ans**
- 1. returns from the tour
  - 2. She will have participate
  - 3. in the dance competition
  - 4. by the time her father

Question ID : 264330145281  
Option 1 ID : 264330569381  
Option 2 ID : 264330569380  
Option 3 ID : 264330569379  
Option 4 ID : 264330569382  
Status : Answered  
Chosen Option : 1

**Q.30** Select the most appropriate one-word substitution of the given group of words.

A notice of the death of a person, often with a biographical sketch, as in a newspaper.

- Ans**
- 1. Elegy
  - 2. Advertisement
  - 3. Oblivion
  - 4. Obituary

Question ID : 26433090852  
Option 1 ID : 264330356820  
Option 2 ID : 264330356818  
Option 3 ID : 264330356817  
Option 4 ID : 264330356819  
Status : Answered  
Chosen Option : 4

**Q.31** Select the most appropriate synonym of the given word.

Site

- Ans**
- 1. Location
  - 2. Lap
  - 3. Globe
  - 4. Pull

Question ID : 26433063165  
Option 1 ID : 264330247324  
Option 2 ID : 264330247327  
Option 3 ID : 264330247325  
Option 4 ID : 264330247326  
Status : Answered  
Chosen Option : 3

**Q.32** Select the option that can substitute the bracketed word segment correctly and complete the following sentence meaningfully.  
Lots of kids (was visualised) crossing the road when the bus arrived.

- Ans** ✓ 1. were seen  
✗ 2. have been seen  
✗ 3. was seen  
✗ 4. are seen

Question ID : 264330134148  
Option 1 ID : 264330525617  
Option 2 ID : 264330525618  
Option 3 ID : 264330525615  
Option 4 ID : 264330525616  
Status : Answered  
Chosen Option : 1

**Q.33** Parts of the following sentence have been given as options. Select the option that contains an error.  
The dancers swayed dainty on the stage last night.

- Ans** ✓ 1. swayed dainty  
✗ 2. The dancers  
✗ 3. on the stage  
✗ 4. last night

Question ID : 264330134122  
Option 1 ID : 264330525512  
Option 2 ID : 264330525511  
Option 3 ID : 264330525513  
Option 4 ID : 264330525514  
Status : Answered  
Chosen Option : 3

**Q.34** Select the most appropriate phrasal verb to fill in the blank.  
Arunima \_\_\_\_\_ a lot during her vacation time.

- Ans** ✓ 1. gets about  
✗ 2. gets after  
✗ 3. gets along  
✗ 4. gets on

Question ID : 26433084918  
Option 1 ID : 264330333394  
Option 2 ID : 264330333395  
Option 3 ID : 264330333393  
Option 4 ID : 264330333396  
Status : Answered  
Chosen Option : 1

**Q.35** Select the most appropriate **ANTONYM** for the highlighted word.  
The negligent attitude of the cops was criticised.

- Ans**
- 1. reluctant
  - 2. amplify
  - 3. attentive
  - 4. bored

Question ID : 264330120738  
Option 1 ID : 264330473167  
Option 2 ID : 264330473170  
Option 3 ID : 264330473169  
Option 4 ID : 264330473168  
Status : Answered  
Chosen Option : 2

**Q.36** The following sentence has been split into four segments. Identify the segment that contains a spelling error.  
He wrote his dairy / in code / so that nobody / could understand it.

- Ans**
- 1. so that nobody
  - 2. in code
  - 3. He wrote his dairy
  - 4. could understand it

Question ID : 264330123023  
Option 1 ID : 264330482157  
Option 2 ID : 264330482156  
Option 3 ID : 264330482155  
Option 4 ID : 264330482158  
Status : Answered  
Chosen Option : 3

**Q.37** Select the option that will improve the underlined part of the given sentence.  
The use of chemicals, insecticides and pesticides began after the Green Revolution.

- Ans**
- 1. The usage of chemicals, insecticides and pesticides
  - 2. A practice of chemicals, insecticides and pesticides
  - 3. Consumption of chemicals, insecticides and pesticides
  - 4. The custom of chemicals, insecticides and pesticides

Question ID : 264330145288  
Option 1 ID : 264330569410  
Option 2 ID : 264330569407  
Option 3 ID : 264330569409  
Option 4 ID : 264330569408  
Status : Answered  
Chosen Option : 3



**Q.38** Select the option that can be used as a one-word substitute for the given group of words.

**Working or operating quickly and effectively in an organised way**

- Ans**  1. Efficient  
 2. Excellent  
 3. Effusive  
 4. Extensive

Question ID : 26433099604  
Option 1 ID : 264330391031  
Option 2 ID : 264330391032  
Option 3 ID : 264330391029  
Option 4 ID : 264330391030  
Status : Answered  
Chosen Option : 4

**Q.39** Select the most appropriate meaning of the given idiom.  
**Bend over backwards**

- Ans**  1. Working hard to try to impress  
 2. Using wrongful means  
 3. Going backward  
 4. Working slowly and lazily

Question ID : 26433096216  
Option 1 ID : 264330377620  
Option 2 ID : 264330377618  
Option 3 ID : 264330377617  
Option 4 ID : 264330377619  
Status : Answered  
Chosen Option : 1

**Q.40** Select the most appropriate meaning of the underlined idiom in the given sentence.  
**I hate to get off on the wrong foot.**

- Ans**  1. To start a relationship or activity badly  
 2. To start something with an injury on the wrong foot  
 3. To start something with neutral factors  
 4. To start something with positive factors

Question ID : 26433089397  
Option 1 ID : 264330351090  
Option 2 ID : 264330351092  
Option 3 ID : 264330351091  
Option 4 ID : 264330351089  
Status : Answered  
Chosen Option : 3

**Comprehension:**

In the following passage some words have been deleted. Read the passage carefully and select the most appropriate option for each blank.

The Amazon rainforest is an awe-inspiring natural wonder that (1)\_\_\_\_\_ across several South American countries, including Brazil, Peru, Colombia, and Ecuador. Covering an (2)\_\_\_\_\_ area of 5.5 million square kilometres, it is the largest tropical rainforest on Earth. The Amazon jungle is (3)\_\_\_\_\_ for its remarkable biodiversity, harbouring an astonishing array of plant and animal species that are still being discovered and studied. The dense vegetation of the jungle creates a (4)\_\_\_\_\_ and complex ecosystem, supporting countless species and providing crucial ecosystem services such as carbon sequestration and climate regulation. It is also home to (5)\_\_\_\_\_ communities that have thrived within its rich confines for centuries, preserving their traditions and deep connection to the land.

**SubQuestion No : 41**

**Q.41** Select the most appropriate option to fill in blank number 1.

- Ans  1. lengths  
 2. spans  
 3. amounts  
 4. reaches

Question ID : 264330164254

Option 1 ID : 264330644246

Option 2 ID : 264330644244

Option 3 ID : 264330644243

Option 4 ID : 264330644245

Status : Answered

Chosen Option : 2

**Comprehension:**

In the following passage some words have been deleted. Read the passage carefully and select the most appropriate option for each blank.

The Amazon rainforest is an awe-inspiring natural wonder that (1)\_\_\_\_\_ across several South American countries, including Brazil, Peru, Colombia, and Ecuador. Covering an (2)\_\_\_\_\_ area of 5.5 million square kilometres, it is the largest tropical rainforest on Earth. The Amazon jungle is (3)\_\_\_\_\_ for its remarkable biodiversity, harbouring an astonishing array of plant and animal species that are still being discovered and studied. The dense vegetation of the jungle creates a (4)\_\_\_\_\_ and complex ecosystem, supporting countless species and providing crucial ecosystem services such as carbon sequestration and climate regulation. It is also home to (5)\_\_\_\_\_ communities that have thrived within its rich confines for centuries, preserving their traditions and deep connection to the land.

**SubQuestion No : 42**

**Q.42** Select the most appropriate option to fill in blank number 2.

- Ans  1. estimated  
 2. gauged  
 3. rated  
 4. evaluated

Question ID : 264330164255

Option 1 ID : 264330644248

Option 2 ID : 264330644247

Option 3 ID : 264330644250

Option 4 ID : 264330644249

Status : Answered

Chosen Option : 3

**Comprehension:**

In the following passage some words have been deleted. Read the passage carefully and select the most appropriate option for each blank.

The Amazon rainforest is an awe-inspiring natural wonder that (1)\_\_\_\_\_ across several South American countries, including Brazil, Peru, Colombia, and Ecuador. Covering an (2)\_\_\_\_\_ area of 5.5 million square kilometres, it is the largest tropical rainforest on Earth. The Amazon jungle is (3)\_\_\_\_\_ for its remarkable biodiversity, harbouring an astonishing array of plant and animal species that are still being discovered and studied. The dense vegetation of the jungle creates a (4)\_\_\_\_\_ and complex ecosystem, supporting countless species and providing crucial ecosystem services such as carbon sequestration and climate regulation. It is also home to (5)\_\_\_\_\_ communities that have thrived within its rich confines for centuries, preserving their traditions and deep connection to the land.

**SubQuestion No : 43**

**Q.43** Select the most appropriate option to fill in blank number 3.

- Ans  1. great  
 2. acclaimed  
 3. pre-eminent  
 4. renowned

Question ID : 264330164256

Option 1 ID : 264330644251

Option 2 ID : 264330644252

Option 3 ID : 264330644254

Option 4 ID : 264330644253

Status : Answered

Chosen Option : 1

**Comprehension:**

In the following passage some words have been deleted. Read the passage carefully and select the most appropriate option for each blank.

The Amazon rainforest is an awe-inspiring natural wonder that (1)\_\_\_\_\_ across several South American countries, including Brazil, Peru, Colombia, and Ecuador. Covering an (2)\_\_\_\_\_ area of 5.5 million square kilometres, it is the largest tropical rainforest on Earth. The Amazon jungle is (3)\_\_\_\_\_ for its remarkable biodiversity, harbouring an astonishing array of plant and animal species that are still being discovered and studied. The dense vegetation of the jungle creates a (4)\_\_\_\_\_ and complex ecosystem, supporting countless species and providing crucial ecosystem services such as carbon sequestration and climate regulation. It is also home to (5)\_\_\_\_\_ communities that have thrived within its rich confines for centuries, preserving their traditions and deep connection to the land.

**SubQuestion No : 44**

**Q.44** Select the most appropriate option to fill in blank number 4.

- Ans  1. spirited  
 2. lavish  
 3. vigour  
 4. vibrant

Question ID : 264330164257

Option 1 ID : 264330644256

Option 2 ID : 264330644257

Option 3 ID : 264330644258

Option 4 ID : 264330644255

Status : Answered

Chosen Option : 2

**Comprehension:**

In the following passage some words have been deleted. Read the passage carefully and select the most appropriate option for each blank.

The Amazon rainforest is an awe-inspiring natural wonder that (1) \_\_\_\_\_ across several South American countries, including Brazil, Peru, Colombia, and Ecuador. Covering an (2) \_\_\_\_\_ area of 5.5 million square kilometres, it is the largest tropical rainforest on Earth. The Amazon jungle is (3) \_\_\_\_\_ for its remarkable biodiversity, harbouring an astonishing array of plant and animal species that are still being discovered and studied. The dense vegetation of the jungle creates a (4) \_\_\_\_\_ and complex ecosystem, supporting countless species and providing crucial ecosystem services such as carbon sequestration and climate regulation. It is also home to (5) \_\_\_\_\_ communities that have thrived within its rich confines for centuries, preserving their traditions and deep connection to the land.

**SubQuestion No : 45**

**Q.45** Select the most appropriate option to fill in blank number 5.

- Ans
- 1. late
  - 2. organic
  - 3. indigenous
  - 4. ancient

Question ID : 264330164258

Option 1 ID : 264330644260

Option 2 ID : 264330644259

Option 3 ID : 264330644262

Option 4 ID : 264330644261

Status : Answered

Chosen Option : 1

**Comprehension:**

Read the given passage and answer the question that follows.

We started our research into organisational and personal excellence by studying a slightly different topic. We figured that if we could learn why certain people were more effective than others, then we could learn exactly what they did, clone it and pass it on to others. We asked people to identify who they thought were their most effective colleagues. In fact, over the past twenty-five years, we have asked over twenty thousand people to identify the individuals in their organisations who could really get things done. We wanted to find those who were not just influential but who were far more influential than the rest.

**SubQuestion No : 46**

**Q.46** Select the statement that most appropriately sums up the passage given.

- Ans
- 1. Some people are more effective and more influential than others to get things done.
  - 2. Some people cannot be identified due to their most effective ways in 25 years.
  - 3. Research grants in an organisation should be increased for personal excellence.
  - 4. It takes 25 years of research to make people more effective and influential.

Question ID : 264330164708

Option 1 ID : 264330645989

Option 2 ID : 264330645988

Option 3 ID : 264330645987

Option 4 ID : 264330645990

Status : Answered

Chosen Option : 3

**Comprehension:**

Read the given passage and answer the question that follows.

We started our research into organisational and personal excellence by studying a slightly different topic. We figured that if we could learn why certain people were more effective than others, then we could learn exactly what they did, clone it and pass it on to others. We asked people to identify who they thought were their most effective colleagues. In fact, over the past twenty-five years, we have asked over twenty thousand people to identify the individuals in their organisations who could really get things done. We wanted to find those who were not just influential but who were far more influential than the rest.

**SubQuestion No : 47**

**Q.47 Which real life situation can be the most appropriate to be inferred from the passage?**

- Ans** ✓ 1. Jassie is an efficient employee whose work ethics can be a case study to learn more about organisational and personal excellence.
- ✗ 2. If we do something wrong to decent people, the same comes to haunt us even after many years.
- ✗ 3. People nowadays do not have patience and want quick success and does not matter what path they choose to obtain their targets.
- ✗ 4. Inflation has direct influence on the morals and ethics of an individual.

Question ID : 264330164710

Option 1 ID : 264330645997

Option 2 ID : 264330645995

Option 3 ID : 264330645998

Option 4 ID : 264330645996

Status : Answered

Chosen Option : 2

**Comprehension:**

Read the given passage and answer the question that follows.

We started our research into organisational and personal excellence by studying a slightly different topic. We figured that if we could learn why certain people were more effective than others, then we could learn exactly what they did, clone it and pass it on to others. We asked people to identify who they thought were their most effective colleagues. In fact, over the past twenty-five years, we have asked over twenty thousand people to identify the individuals in their organisations who could really get things done. We wanted to find those who were not just influential but who were far more influential than the rest.

**SubQuestion No : 48**

**Q.48 Select the most suitable structure for the above passage.**

- Ans** ✓ 1. Pragmatic
- ✗ 2. Compare and contrast
- ✗ 3. Chronological
- ✗ 4. Cause and Effect

Question ID : 264330164709

Option 1 ID : 264330645994

Option 2 ID : 264330645992

Option 3 ID : 264330645991

Option 4 ID : 264330645993

Status : Answered

Chosen Option : 2

**Comprehension:**

Read the given passage and answer the question that follows.

We started our research into organisational and personal excellence by studying a slightly different topic. We figured that if we could learn why certain people were more effective than others, then we could learn exactly what they did, clone it and pass it on to others. We asked people to identify who they thought were their most effective colleagues. In fact, over the past twenty-five years, we have asked over twenty thousand people to identify the individuals in their organisations who could really get things done. We wanted to find those who were not just influential but who were far more influential than the rest.

**SubQuestion No : 49**

**Q.49 Select the most appropriate title to the given passage.**

- Ans**
- 1. Learn, Clone and Pass
  - 2. Different Topics
  - 3. Research Grants in Organisations
  - 4. Most Effective Colleagues

Question ID : 264330164707

Option 1 ID : 264330645984

Option 2 ID : 264330645986

Option 3 ID : 264330645985

Option 4 ID : 264330645983

Status : Answered

Chosen Option : 1

**Comprehension:**

Read the given passage and answer the question that follows.

We started our research into organisational and personal excellence by studying a slightly different topic. We figured that if we could learn why certain people were more effective than others, then we could learn exactly what they did, clone it and pass it on to others. We asked people to identify who they thought were their most effective colleagues. In fact, over the past twenty-five years, we have asked over twenty thousand people to identify the individuals in their organisations who could really get things done. We wanted to find those who were not just influential but who were far more influential than the rest.

**SubQuestion No : 50**

**Q.50 Select the most appropriate ANTONYM of the given word.**

**Effective**

- Ans**
- 1. Courteous
  - 2. Fruitless
  - 3. Harmonious
  - 4. Deniable

Question ID : 264330164711

Option 1 ID : 264330646002

Option 2 ID : 264330646000

Option 3 ID : 264330645999

Option 4 ID : 264330646001

Status : Answered

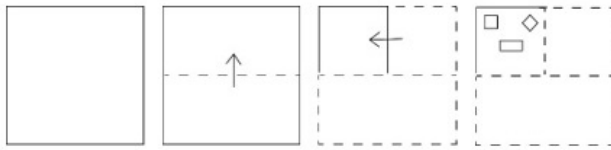
Chosen Option : 2

**Sub Inspector in Delhi Police and Central Armed Police Forces Examination 2023  
Paper I**

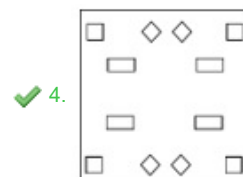
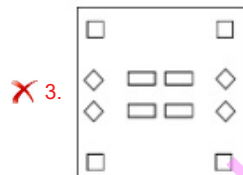
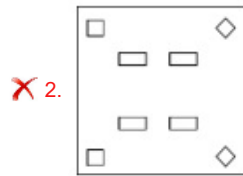
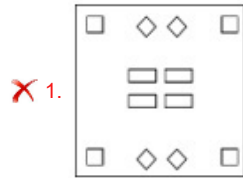
Roll Number	qmaths.in
Candidate Name	KD JOB UPDATES
Venue Name	Neta Jee Subhash Chandra Bose Online Examination Center
Exam Date	03/10/2023
Exam Time	12:30 PM - 2:30 PM
Subject	SICPO Paper I 2023

Section : General I

Q.1 एक कागज को नीचे दिखाए गए अनुसार मोड़ा और काटा जाता है। खोले जाने पर यह कैसा दिखाई देगा?



Ans



Question ID : 264330103002

Option 1 ID : 264330404400

Option 2 ID : 264330404397

Option 3 ID : 264330404398

Option 4 ID : 264330404399

Status : Answered

Chosen Option : 4

Q.2 एक निश्चित कूट भाषा में, 'COUNTY' को 'ULCYGN' और 'FOREST' को 'RLFTHE' के रूप में लिखा जाता है। उसी कूट भाषा में 'MARGIN' को किस प्रकार लिखा जाएगा?

- Ans
- 1. RJMDSZ
  - 2. ZMMRGI
  - 3. ZMTPRH
  - 4. RZMNRG

Question ID : 26433074765

Option 1 ID : 264330293149

Option 2 ID : 264330293151

Option 3 ID : 264330293150

Option 4 ID : 264330293148

Status : Answered

Chosen Option : 4

Q.3 यदि M का अर्थ '+' है, N का अर्थ '-' है, O का अर्थ 'x' है, और P का अर्थ '÷' है तो निम्नलिखित समीकरण में '?' के स्थान पर क्या आएगा?  
255 N 5 O 4 P 16 O 3 M 29 = ?

- Ans
- 1. 211
  - 2. 216
  - 3. 230
  - 4. 223

Question ID : 26433057631

Option 1 ID : 264330225511

Option 2 ID : 264330225509

Option 3 ID : 264330225510

Option 4 ID : 264330225508

Status : Answered

Chosen Option : 4

Q.4 उस समुच्चय का चयन कीजिए जिसमें संख्याएँ उसी प्रकार संबंधित हैं जिस प्रकार निम्नलिखित समुच्चयों की संख्याएँ संबंधित हैं।

(नोट: संख्याओं को उसके घटक अंकों में विभाजित किए बिना, पूर्ण संख्याओं पर संक्रियाएँ की जानी चाहिए। उदाहरण के लिए 13 - इसमें 13 पर जोड़ने / घटाने / गुणा करने आदि जैसी संक्रियाओं को 13 में किया जा सकता है। 13 को 1 और 3 में विभाजित करने और फिर 1 और 3 पर गणितीय संक्रियाएँ करने की अनुमति नहीं है)

(11, 33, 17), (18, 44, 21)

- Ans
- 1. (12, 40, 18)
  - 2. (16, 43, 22)
  - 3. (15, 34, 19)
  - 4. (7, 32, 9)

Question ID : 264330145304

Option 1 ID : 264330569474

Option 2 ID : 264330569471

Option 3 ID : 264330569472

Option 4 ID : 264330569473

Status : Answered

Chosen Option : 2



Q.5 दिए गए समीकरण को सही बनाने के लिए किन दो गणितीय चिह्न को आपस में बदला जाना चाहिए?

$$(75 + 15) \times 27 \times 1 - 9 \div 7 \times (135 + 3) - 10 \div (189 + 63) = 434$$

- Ans
- 1.  $\times$  और  $+$
  - 2.  $+$  और  $+$
  - 3.  $+$  और  $-$
  - 4.  $+$  और  $-$

Question ID : 264330145311

Option 1 ID : 264330569499

Option 2 ID : 264330569501

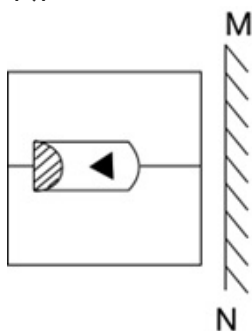
Option 3 ID : 264330569502

Option 4 ID : 264330569500

Status : Not Answered

Chosen Option : --

Q.6 दर्पण को नीचे चित्र के अनुसार 'MN' पर रखे जाने पर दिए गए संयोजन के सही दर्पण प्रतिबिंब का चयन करें।



Ans

- 1.
- 2.
- 3.
- 4.

Question ID : 264330130773

Option 1 ID : 264330512203

Option 2 ID : 264330512204

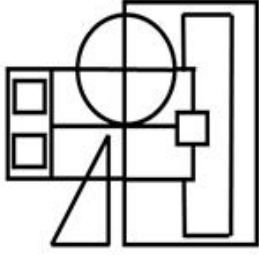
Option 3 ID : 264330512206

Option 4 ID : 264330512205

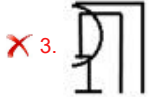
Status : Answered

Chosen Option : 2

Q.7 उस विकल्प आकृति का चयन कीजिए जो दी गई आकृति में उसके एक भाग के रूप में अंतर्निहित है (आकृति को घमाने की अनुमति नहीं है)।



Ans



Question ID : 264330145465

Option 1 ID : 264330570117

Option 2 ID : 264330570115

Option 3 ID : 264330570118

Option 4 ID : 264330570116

Status : Answered

Chosen Option : 2

Q.8 एक निश्चित कूट भाषा में "OIL" को 27 के रूप में कूटबद्ध किया जाता है, और "CREAM" को 125 के रूप में कूटबद्ध किया जाता है। उसी कूट भाषा में "POWDER" को किस प्रकार कूटबद्ध किया जाएगा?

Ans ✗ 1. 169

✗ 2. 198

✗ 3. 225

✓ 4. 216

Question ID : 264330132210

Option 1 ID : 264330517935

Option 2 ID : 264330517936

Option 3 ID : 264330517938

Option 4 ID : 264330517937

Status : Answered

Chosen Option : 4

Q.9 विकल्पों में दी गई कौन सी संख्या निम्न संख्या श्रेणी में प्रश्नचिह्न (?) के स्थान पर आकर उसे पूर्ण करेगी।  
15, 19, 21, 25, 27, ?

Ans ✗ 1. 32

✗ 2. 30

✓ 3. 31

✗ 4. 29

Question ID : 26433067479

Option 1 ID : 264330264431

Option 2 ID : 264330264428

Option 3 ID : 264330264429

Option 4 ID : 264330264430

Status : Answered

Chosen Option : 3

Q.10 एक निश्चित प्रकार से 'PRO 5' का संबंध 'OSQ 15' से है। ठीक उसी प्रकार 'OPO 10' का संबंध 'NQQ 30' से है। उसी तर्क का उपयोग करते हुए बताइए कि निम्नलिखित में से किसका संबंध 'MAC 9' से है?

Ans  1. NZA 3

2. NZA 27

3. NZB 3

4. OZA 3

Question ID : 264330145384

Option 1 ID : 264330569792

Option 2 ID : 264330569793

Option 3 ID : 264330569794

Option 4 ID : 264330569791

Status : Answered

Chosen Option : 2

Q.11 यदि A का अर्थ '+' हो, B का अर्थ '×' हो, C का अर्थ '-' हो और D का अर्थ '÷' हो, तो निम्नलिखित समीकरण का मान कितना होगा?  
13 B 7 A 64 D 4 C 23 = ?

Ans  1. 84

2. 86

3. 82

4. 76

Question ID : 264330129784

Option 1 ID : 264330508369

Option 2 ID : 264330508368

Option 3 ID : 264330508367

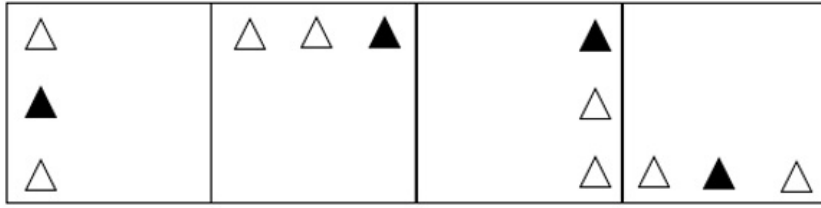
Option 4 ID : 264330508370

Status : Answered

Chosen Option : 1

KD JOB UPDATES

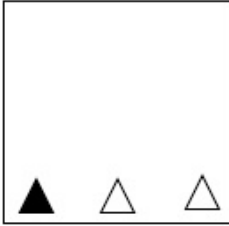
Q.12 निम्नलिखित में से कौन-सी आकृति दी गई श्रृंखला में 5वें स्थान पर रखे जाने पर पहली चार आकृतियों द्वारा निर्मित श्रृंखला को जारी रखेगी?



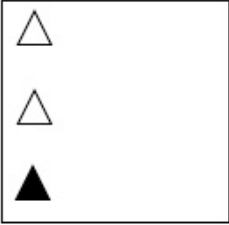
1                      2                      3                      4

Ans

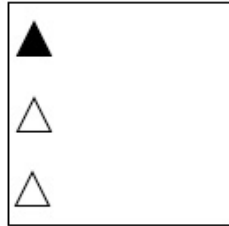
✗ 1.



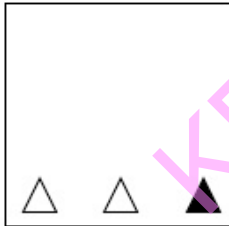
✗ 2.



✓ 3.



✗ 4.



Question ID : 26433087307

Option 1 ID : 264330342868

Option 2 ID : 264330342866

Option 3 ID : 264330342865

Option 4 ID : 264330342867

Status : Answered

Chosen Option : 3

Q.13 उस समुच्चय का चयन कीजिए जिसमें संख्याएँ आपस में उसी प्रकार संबंधित हैं जिस प्रकार निम्नलिखित समुच्चयों की संख्याएँ आपस में संबंधित हैं। (नोट: संख्याओं को उसके घटक अंकों में विभाजित किए बिना, पूर्ण संख्याओं पर गणितीय संक्रियाएँ की जानी चाहिए। उदाहरण के लिए 13 - गणितीय संक्रियाएँ जैसे कि जोड़ना/घटाना/गुणा करना इत्यादि 13 में किया जा सकता है। 13 को 1 और 3 में विभाजित करना और फिर 1 और 3 पर गणितीय संक्रियाएँ करने की अनुमति नहीं है।)  
(15, 21, 66)  
(9, 17, 44)

- Ans  1. (5, 37, 52)  
 2. (11, 13, 35)  
 3. (2, 4, 12)  
 4. (7, 9, 86)

Question ID : 26433057456  
Option 1 ID : 264330224810  
Option 2 ID : 264330224811  
Option 3 ID : 264330224809  
Option 4 ID : 264330224808  
Status : Answered  
Chosen Option : 1

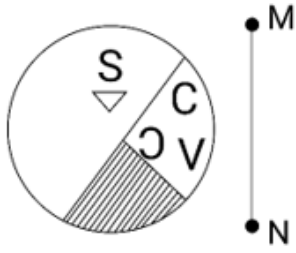
Q.14 एक निश्चित कूट भाषा में, "FRIGHT" को "FOCQED" लिखा जाता है, और "SHREDS" को "OEPPAB" लिखा जाता है। उसी कूट भाषा में "UPSETS" को किस प्रकार लिखा जाएगा?

- Ans  1. PMRPQB  
 2. PMROQB  
 3. PMRSQB  
 4. PMSPQB

Question ID : 264330180764  
Option 1 ID : 264330709025  
Option 2 ID : 264330709023  
Option 3 ID : 264330709026  
Option 4 ID : 264330709024  
Status : Answered  
Chosen Option : 1

KD JOB UPDATES

Q.15 यदि दर्पण को नीचे दिखाए गए अनुसार रेखा MN पर रखा गया हो, तो दी गई आकृति के सही दर्पण प्रतिबिम्ब का चयन कीजिए।

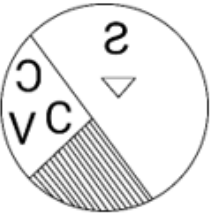


Ans

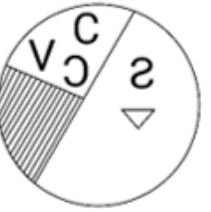
✗ 1.



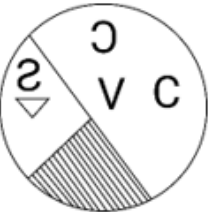
✓ 2.



✗ 3.



✗ 4.



KD JOB UPDATES

Question ID : 264330170163

Option 1 ID : 264330667327

Option 2 ID : 264330667329

Option 3 ID : 264330667330

Option 4 ID : 264330667328

Status : Answered

Chosen Option : 2

Q.16 उस विकल्प का चयन करें, जो उन अक्षरों को निरूपित करता है, जिन्हें नीचे दिए गए रिक्त स्थानों में क्रमिक रूप से बाएं से दाएं रखे जाने पर दी गई अक्षर श्रृंखला पूरी हो जाएगी।

A \_ \_ D F \_ K \_ \_ F A \_ L \_ \_

- Ans
- 1. LALKDFDK
  - 2. FDLAKFDL
  - 3. KLALDKDF
  - 4. DLKLFALD

Question ID : 26433086951  
Option 1 ID : 264330341447  
Option 2 ID : 264330341448  
Option 3 ID : 264330341446  
Option 4 ID : 264330341445  
Status : Answered  
Chosen Option : 3

Q.17 नीचे तीन कथन और उसके बाद I, II और III क्रमांक वाले तीन निष्कर्ष दिए गए हैं। यह मानते हुए कि कथनों में दी गई जानकारी सत्य है, भले ही ये कथन सामान्य रूप से ज्ञात तथ्यों से भिन्न प्रतीत होते हों, यह निर्णय कीजिए कि कौन से निष्कर्ष इन कथनों का तार्किक रूप से पालन करते हैं?

कथन:

सभी घाटियां पहाड़ हैं।  
कोई समुद्र पहाड़ नहीं है।  
कुछ मैदान समुद्र हैं।

निष्कर्ष:

- I. कुछ घाटियां मैदान हैं।
- II. कोई मैदान पहाड़ नहीं है।
- III. कोई समुद्र घाटी नहीं है।

- Ans
- 1. केवल निष्कर्ष I पालन करता है।
  - 2. निष्कर्ष I और II दोनों पालन करते हैं।
  - 3. केवल निष्कर्ष II पालन करता है।
  - 4. केवल निष्कर्ष III पालन करता है।

Question ID : 264330145341  
Option 1 ID : 264330569622  
Option 2 ID : 264330569619  
Option 3 ID : 264330569621  
Option 4 ID : 264330569620  
Status : Answered  
Chosen Option : 4

Q.18 "M \$ K" का अर्थ है कि "M, K की माता है"।  
"M # K" का अर्थ है कि "M, K का पिता है"।  
"M @ K" का अर्थ है कि "M, K का पति है"।  
"M % K" का अर्थ है कि "M, K की पुत्री है"।  
यदि A \$ C @ R है, तो R का A से क्या संबंध है?

- Ans
- 1. माता
  - 2. बहू
  - 3. पुत्री
  - 4. ससुर

Question ID : 264330145391  
Option 1 ID : 264330569821  
Option 2 ID : 264330569819  
Option 3 ID : 264330569820  
Option 4 ID : 264330569822  
Status : Answered  
Chosen Option : 2

Q.19 निम्नलिखित में से कौन सी संख्या दी गई श्रेणी में प्रश्नचिह्न (?) के स्थान पर आएगी?  
18, 27, 31, 43, 44, 59, 57, ?

Ans  1. 75

2. 83

3. 82

4. 74

Question ID : 26433067869

Option 1 ID : 264330265988

Option 2 ID : 264330265991

Option 3 ID : 264330265989

Option 4 ID : 264330265990

Status : Answered

Chosen Option : 1

Q.20 शहर Q, शहर P के उत्तर में है। शहर R, शहर Q के पश्चिम में है। शहर S, शहर R के उत्तर में है। शहर T, शहर S के पूर्व में है। शहर R के सापेक्ष शहर T की स्थिति क्या है? (सभी स्थितियों को ग्रिड (GRID) पैटर्न में व्यवस्थित किया गया है)।

Ans  1. पूर्व

2. उत्तर-पूर्व

3. दक्षिण-पूर्व

4. दक्षिण

Question ID : 26433091638

Option 1 ID : 264330359919

Option 2 ID : 264330359917

Option 3 ID : 264330359920

Option 4 ID : 264330359918

Status : Answered

Chosen Option : 2

KD JOB UPDATES



Q.21 यदि निम्नलिखित आकृति श्रृंखला को जारी रखा जाए, तो दिए गए विकल्पों में से कौन-सी आकृति प्रश्नवाचक चिन्ह (?) को प्रतिस्थापित करेगी?

R	3	A	□	9	R	3	F	☆	□	A	3	?
○	F	9	3	F	☆	S	○	A	F	○	9	
□	☆	S	S	○	A	□	9	R	R	S	☆	

Ans

✗ 1.

F	S	9
R	A	☆
□	○	3

✗ 2.

R	S	☆
□	A	3
F	○	9

✓ 3.

F	○	9
R	S	☆
□	A	3

✗ 4.

R	9	□
A	○	S
☆	F	3

Question ID : 264330145478

Option 1 ID : 264330570170

Option 2 ID : 264330570167

Option 3 ID : 264330570168

Option 4 ID : 264330570169

Status : Not Answered

Chosen Option : --

Q.22 यदि '+' का अर्थ 'भाग देना' है, '-' का अर्थ 'जोड़ना' है, 'x' का अर्थ 'घटाना' है और '÷' का अर्थ 'गुणा करना' है, तो निम्नलिखित व्यंजक का मान क्या होगा?

$$[(25 \times 13) - (3 \div 3)] + (3 - 4) \div 5$$

- Ans
- 1. 10
  - 2. 20
  - 3. 15
  - 4. 5

Question ID : 264330130377

Option 1 ID : 264330510620

Option 2 ID : 264330510622

Option 3 ID : 264330510621

Option 4 ID : 264330510619

Status : Answered

Chosen Option : 3

Q.23 नीचे दिए गए चार अक्षर-समूहों में से तीन किसी प्रकार से आपस में संबंधित हैं और कोई एक उनसे असंगत है। असंगत अक्षर-समूह का चयन कीजिए।

- Ans
- 1. FIEU
  - 2. KNJZ
  - 3. MJLO
  - 4. SVRH

Question ID : 264330180753

Option 1 ID : 264330708979

Option 2 ID : 264330708981

Option 3 ID : 264330708980

Option 4 ID : 264330708982

Status : Answered

Chosen Option : 3

Q.24 दिए गए अक्षर-समूहों में से कौन-सा, दी गई श्रृंखला में प्रश्न-चिह्न (?) के स्थान पर आकर श्रृंखला को पूर्ण करेगा?

MMNO, OKPM, ?, SGTI, UEVG

- Ans
- 1. POKI
  - 2. PQIJ
  - 3. QRIL
  - 4. QIRK

Question ID : 264330180763

Option 1 ID : 264330709022

Option 2 ID : 264330709019

Option 3 ID : 264330709020

Option 4 ID : 264330709021

Status : Answered

Chosen Option : 4

Q.25 उस समुच्चय का चयन कीजिए जिसमें संख्याएँ उसी प्रकार संबंधित हैं जिस प्रकार निम्नलिखित समुच्चयों की संख्याएँ संबंधित हैं।

(नोट: संख्याओं को उसके घटक अंकों में विभाजित किए बिना, पूर्ण संख्याओं पर संक्रियाएँ की जानी चाहिए। उदाहरण के लिए 13 - इसमें 13 पर जोड़ने / घटाने / गुणा करने आदि जैसी संक्रियाओं को 13 में किया जा सकता है। 13 को 1 और 3 में विभाजित करने और फिर 1 और 3 पर गणितीय संक्रियाएँ करने की अनुमति नहीं है)

(13, 104, 16), (9, 63, 14)

- Ans
- 1. (23, 204, 26)
  - 2. (12, 85, 15)
  - 3. (10, 92, 17)
  - 4. (8, 60, 15)

Question ID : 264330145299

Option 1 ID : 264330569451

Option 2 ID : 264330569454

Option 3 ID : 264330569452

Option 4 ID : 264330569453

Status : Answered

Chosen Option : 4

Q.26 नीचे दो कथन और दो निष्कर्ष दिए गए हैं। कथनों को सत्य मानते हुए, भले ही वे सामान्य रूप से ज्ञात तथ्यों से भिन्न प्रतीत होते हों, निर्धारित करें कि कौन-से निष्कर्ष दिए गए कथनों का तार्किक रूप से पालन करते हैं?

**कथन**

कुछ केक बिस्कुट हैं।

कुछ बिस्कुट चॉकलेट हैं।

**निष्कर्ष:**

I. कुछ बिस्कुट केक हैं।

II. कुछ केक चॉकलेट हैं।

- Ans
- 1. केवल निष्कर्ष I पालन करता है
  - 2. केवल निष्कर्ष II पालन करता है
  - 3. न तो निष्कर्ष I और न ही निष्कर्ष II पालन करता है
  - 4. दोनों निष्कर्ष पालन करते हैं

Question ID : 26433056639

Option 1 ID : 264330221540

Option 2 ID : 264330221541

Option 3 ID : 264330221543

Option 4 ID : 264330221542

Status : Answered

Chosen Option : 1

Q.27 दिए गए समीकरण को सही बनाने के लिए किन दो चिह्नों को आपस में बदला जाना चाहिए?

$$13 + 145 \div 29 \times 52 - 11 = 106$$

- Ans
- 1. + और +
  - 2. x और +
  - 3. - और x
  - 4. + और -

Question ID : 264330129525

Option 1 ID : 264330507467

Option 2 ID : 264330507468

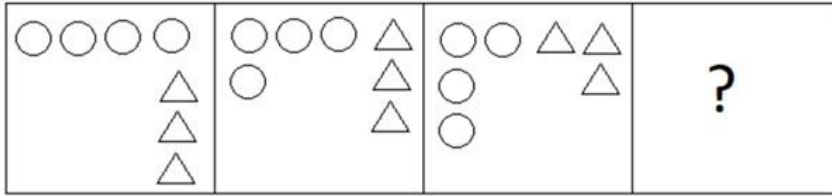
Option 3 ID : 264330507469

Option 4 ID : 264330507466

Status : Answered

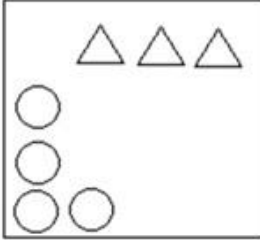
Chosen Option : 2

Q.28 निम्नलिखित आकृति श्रृंखला में आगे आने वाली आकृति का चयन करें।

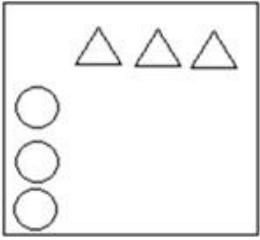


Ans

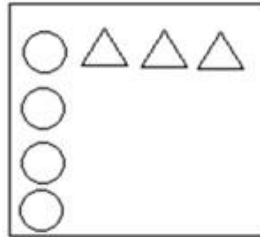
✗ 1.



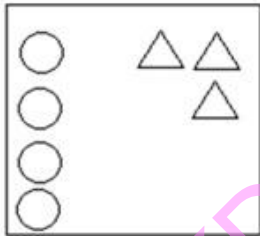
✗ 2.



✓ 3.



✗ 4.



KD JOB UPDATES

Question ID : 26433087072

Option 1 ID : 264330341929

Option 2 ID : 264330341930

Option 3 ID : 264330341932

Option 4 ID : 264330341931

Status : Not Answered

Chosen Option : --

Q.29 सात मित्र, A, B, C, D, E, F और G एक वृत्ताकार मेज के परितः केंद्र की ओर मुख करके बैठे हैं (उनका इसी क्रम में होना अनिवार्य नहीं है)। D, B और C के ठीक बगल में है। A, C के दाईं ओर तीसरे स्थान पर बैठा है। E, A और F के ठीक बगल में है। G, C के बाईं ओर ठीक बगल में बैठा है। B, G के दाईं ओर तीसरे स्थान पर बैठा है। A के दाईं ओर से गिनने पर, A के सापेक्ष G का स्थान क्या है?

- Ans
- 1. दाईं ओर दूसरा
  - 2. बाईं ओर दूसरा
  - 3. बाईं ओर तीसरा
  - 4. दाईं ओर तीसरा

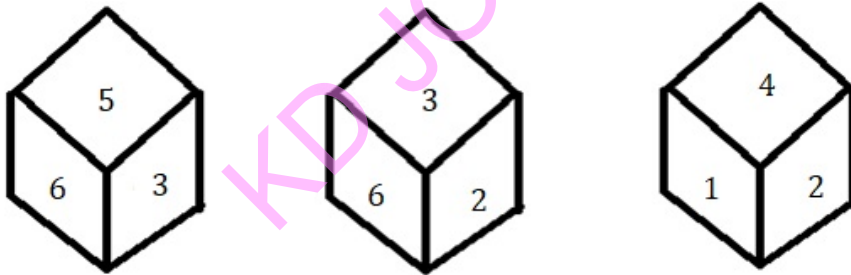
Question ID : 26433056907  
 Option 1 ID : 264330222614  
 Option 2 ID : 264330222615  
 Option 3 ID : 264330222612  
 Option 4 ID : 264330222613  
 Status : Not Answered  
 Chosen Option : --

Q.30 कौन सा अक्षर-समूह दी गई श्रृंखला को पूर्ण करेगा?  
 BHERZ, DGHTX, FFKVV, \_\_\_\_\_

- Ans
- 1. HENWT
  - 2. HENXT
  - 3. GGNXU
  - 4. HGMWU

Question ID : 264330106616  
 Option 1 ID : 264330418766  
 Option 2 ID : 264330418767  
 Option 3 ID : 264330418768  
 Option 4 ID : 264330418765  
 Status : Answered  
 Chosen Option : 2

Q.31 एक ही पासे की तीन अलग-अलग स्थितियाँ दर्शाई गई हैं। '5' दर्शाने वाले फलक के विपरीत फलक पर कौन-सी संख्या होगी?



- Ans
- 1. 2
  - 2. 3
  - 3. 1
  - 4. 4

Question ID : 264330108970  
 Option 1 ID : 264330428158  
 Option 2 ID : 264330428159  
 Option 3 ID : 264330428157  
 Option 4 ID : 264330428160  
 Status : Answered  
 Chosen Option : 1

Q.32 उस समुच्चय का चयन कीजिए जिसमें संख्याएँ एक-दूसरे से उसी प्रकार संबंधित हैं जिस प्रकार निम्नलिखित समुच्चय की संख्याएँ आपस में संबंधित हैं।

(नोट: संख्याओं को उसके घटक अंकों में विभाजित किए बिना, पूर्ण संख्याओं पर गणितीय संक्रियाएँ की जानी चाहिए। उदाहरण के लिए 13 - संख्या 13 पर गणितीय संक्रियाएँ जैसे कि जोड़ना / घटाना / गुणा करना आदि को 13 से किया जा सकता है। 13 को 1 और 3 में तोड़ना और फिर 1 और 3 पर गणितीय संक्रियाएँ करने की अनुमति नहीं है।)

(25, 3, 150)  
(13, 7, 182)

- Ans  1. (5,8,184)  
 2. (6,13,234)  
 3. (10,5,100)  
 4. (3,4,45)

Question ID : 264330145327

Option 1 ID : 264330569564

Option 2 ID : 264330569566

Option 3 ID : 264330569565

Option 4 ID : 264330569563

Status : Answered

Chosen Option : 3

Q.33 छः विद्यार्थी मीरा, जिज्ञासा, तरुण, नैना, शांभवी और अवनी एक वृत्ताकार मेज के परितः केंद्र की ओर मुख करके बैठे हैं (उनका इसी क्रम में होना अनिवार्य नहीं है)। शांभवी, जिज्ञासा और अवनी दोनों के ठीक बगल में है। तरुण, जिज्ञासा के बाईं ओर तीसरे स्थान पर बैठा है। मीरा, अवनी के दाईं ओर दूसरे स्थान पर बैठी है। मीरा के दाईं ओर तीसरे स्थान पर कौन बैठा/बैठी है?

- Ans  1. अवनी  
 2. नैना  
 3. शांभवी  
 4. जिज्ञासा

Question ID : 26433082280

Option 1 ID : 264330322953

Option 2 ID : 264330322956

Option 3 ID : 264330322954

Option 4 ID : 264330322955

Status : Answered

Chosen Option : 1

Q.34 दिए गए समीकरण को सही बनाने के लिए किन दो संख्याओं (अंक नहीं) को आपस में बदला जाना चाहिए?

$$(18 \times 2) - 24 + 10 \times 160 \div 16 + (10 \times 4) = 170$$

- Ans  1. 16 और 18  
 2. 2 और 24  
 3. 2 और 4  
 4. 24 और 18

Question ID : 264330145307

Option 1 ID : 264330569484

Option 2 ID : 264330569486

Option 3 ID : 264330569483

Option 4 ID : 264330569485

Status : Answered

Chosen Option : 4

Q.35 यदि I का अर्थ '+' है, J का अर्थ '×' है, K का अर्थ '-' है और L का अर्थ '+' है, तो निम्नलिखित समीकरण में '?' के स्थान पर क्या आएगा?

$$(35 I 5) J 9 K 23 L 39 K (3 J 8) = ?$$

- Ans
- 1. 60
  - 2. 51
  - 3. 55
  - 4. 59

Question ID : 264330145339

Option 1 ID : 264330569612

Option 2 ID : 264330569613

Option 3 ID : 264330569611

Option 4 ID : 264330569614

Status : Answered

Chosen Option : 3

Q.36 एक निश्चित कूट भाषा में, 'HIGHLY' को 'GRHYOH' और 'CLEVER' को 'EOCRVV' के रूप में लिखा जाता है। उसी कूट भाषा में 'HORROR' को किस प्रकार लिखा जाएगा?

- Ans
- 1. RKJPED
  - 2. JPRDER
  - 3. RLHRLR
  - 4. JRLPDB

Question ID : 26433074763

Option 1 ID : 264330293140

Option 2 ID : 264330293143

Option 3 ID : 264330293141

Option 4 ID : 264330293142

Status : Answered

Chosen Option : 3

Q.37 उस विकल्प का चयन करें, जो तीसरे शब्द से उसी प्रकार संबंधित है, जिस प्रकार दूसरा शब्द पहले शब्द से संबंधित है। (शब्दों को अर्थपूर्ण शब्दों के रूप में माना जाना चाहिए, और इनको शब्द में अक्षरों की संख्या/व्यंजनो/स्वरों की संख्या के आधार पर एक-दूसरे से संबंधित नहीं किया जाना चाहिए।)  
नन (Nun) : कॉन्वेंट (Convent) :: राजा (King) : ?

- Ans
- 1. कारागार (Prison)
  - 2. झोपड़ी (Cottage)
  - 3. महल (Palace)
  - 4. मठ (Monastery)

Question ID : 26433091603

Option 1 ID : 264330359780

Option 2 ID : 264330359777

Option 3 ID : 264330359778

Option 4 ID : 264330359779

Status : Answered

Chosen Option : 3

Q.38 A @ B का अर्थ है "A, B का पति है"  
A & B का अर्थ है "A, B की माता है"  
A # B का अर्थ है "A, B की पुत्री है"  
यदि Q @ M & Y @ J # R & Z है, तो Y का Z से क्या संबंध है?

- Ans
- 1. भाभी
  - 2. बुआ
  - 3. पिता
  - 4. बहनोई

Question ID : 264330126024

Option 1 ID : 264330493768

Option 2 ID : 264330493769

Option 3 ID : 264330493770

Option 4 ID : 264330493771

Status : Answered

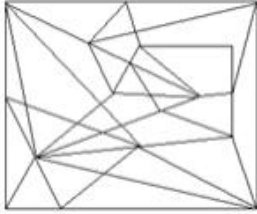
Chosen Option : 4

Q.39 उस विकल्प आकृति का चयन करें जिसमें दी गई आकृति निहित है (घुमाने की अनुमति नहीं है)।

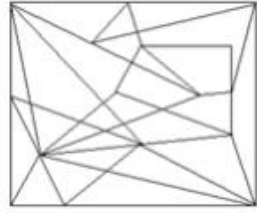


Ans

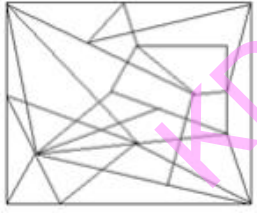
1.



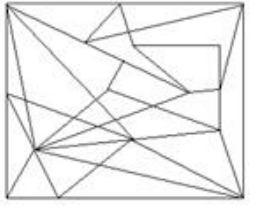
2.



3.



4.



Question ID : 264330145475

Option 1 ID : 264330570158

Option 2 ID : 264330570157

Option 3 ID : 264330570156

Option 4 ID : 264330570155

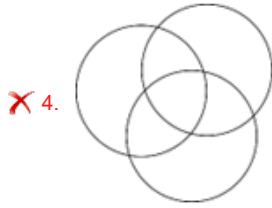
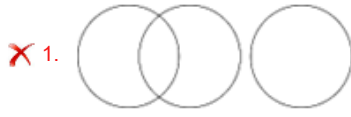
Status : Not Answered

Chosen Option : --



Q.40 उस वेन आरेख का चयन करें, जो निम्नलिखित वर्गों के बीच के संबंध को सर्वोत्तम ढंग से दर्शाता है।  
पशु, बिल्ली, कुत्ते

Ans



Question ID : 264330132028

Option 1 ID : 264330517210

Option 2 ID : 264330517209

Option 3 ID : 264330517208

Option 4 ID : 264330517207

Status : Answered

Chosen Option : 2

Q.41 निम्नलिखित में से तीन अक्षर-समूह किसी न किसी तरह से संगत हैं, और एक असंगत है। असंगत अक्षर समूह का चयन करें।

Ans ✗ 1. GLPS

✗ 2. NSWZ

✗ 3. MRVY

✓ 4. TGQJ

Question ID : 264330145344

Option 1 ID : 264330569632

Option 2 ID : 264330569634

Option 3 ID : 264330569631

Option 4 ID : 264330569633

Status : Answered

Chosen Option : 4

Q.42 निम्नलिखित में से कौन-सी संख्या दी गई श्रृंखला में प्रश्न चिह्न (?) के स्थान पर आएगी?  
91, 111, 133, ?, 183, 211

- Ans  1. 167  
 2. 157  
 3. 156  
 4. 149

Question ID : 26433067631  
Option 1 ID : 264330265036  
Option 2 ID : 264330265038  
Option 3 ID : 264330265037  
Option 4 ID : 264330265039  
Status : Answered  
Chosen Option : 3

Q.43 दो कथनों के बाद दो निष्कर्ष I और II दिए गए हैं। कथनों को सत्य मानते हुए, भले ही वे सामान्य रूप से ज्ञात तथ्यों से भिन्न प्रतीत होते हों, यह निर्णय लीजिए कि कौन-से निष्कर्ष कथनों का तार्किक रूप से पालन करते हैं?

कथन:

कुछ सीप कंकड़ हैं।  
सभी कंकड़ चट्टानें हैं।

निष्कर्ष:

- I. कोई सीप चट्टान नहीं है।  
II. कुछ सीप चट्टानें हैं।

- Ans  1. न तो निष्कर्ष I और न ही निष्कर्ष II पालन करता है  
 2. केवल निष्कर्ष II पालन करता है  
 3. निष्कर्ष I और II दोनों पालन करते हैं  
 4. केवल निष्कर्ष I पालन करता है

Question ID : 26433058040  
Option 1 ID : 264330227147  
Option 2 ID : 264330227145  
Option 3 ID : 264330227146  
Option 4 ID : 264330227144  
Status : Answered  
Chosen Option : 2

Q.44 उस सही विकल्प का चयन कीजिए, जो दिए गए शब्दों के उसी क्रम में व्यवस्थापन को दर्शाता है, जिस क्रम में वे अंग्रेजी शब्दकोश में मौजूद होते हैं।

1. Formal  
2. Foreign  
3. Forest  
4. Forgotten  
5. Forge  
6. Forlorn

- Ans  1. 2, 3, 5, 6, 4, 1  
 2. 2, 3, 5, 4, 6, 1  
 3. 2, 3, 4, 5, 6, 1  
 4. 2, 3, 6, 1, 5, 4

Question ID : 264330145376  
Option 1 ID : 264330569761  
Option 2 ID : 264330569760  
Option 3 ID : 264330569759  
Option 4 ID : 264330569762  
Status : Answered  
Chosen Option : 2

Q.45 विकल्पों में से कौन-सी संख्या दी गई श्रृंखला में प्रश्न चिह्न (?) को प्रतिस्थापित करेगी?

90, 110, 132, ?, 182

- Ans  1. 146  
 2. 148  
 3. 156  
 4. 169

Question ID : 264330145335

Option 1 ID : 264330569596

Option 2 ID : 264330569595

Option 3 ID : 264330569598

Option 4 ID : 264330569597

Status : Answered

Chosen Option : 3

Q.46 शिल्पा प्रतिदिन एक पार्क में टहलने जाती है। एक सुबह, वह अपने घर से टहलना आरंभ करती है, और उत्तर की ओर 40 km चलती है। फिर वह दाईं ओर मुड़ती है, और 60 km चलती है। वह फिर से दाईं ओर मुड़ती है, और 40 km चलती है। अंत में, वह बाईं ओर मुड़ती है, और 30 km चलती है। वह अपने घर से कितनी दूरी पर है?

- Ans  1. 60 km  
 2. 140 km  
 3. 100 km  
 4. 90 km

Question ID : 26433097222

Option 1 ID : 264330381586

Option 2 ID : 264330381588

Option 3 ID : 264330381585

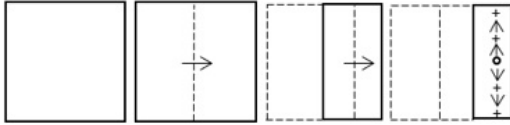
Option 4 ID : 264330381587

Status : Not Answered

Chosen Option : --

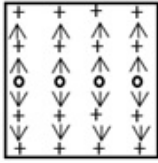
KD JOB UPDATES

Q.47 किसी कागज को प्रदर्शित चित्रानुसार मोड़ा और काटा गया है। खोलने पर यह कैसा दिखेगा?



Ans

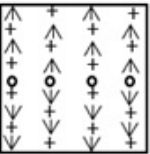
✓ 1.




✗ 2.



✗ 3.



✗ 4.



Question ID : 26433068428

Option 1 ID : 264330268225

Option 2 ID : 264330268226

Option 3 ID : 264330268227

Option 4 ID : 264330268224

Status : Answered

Chosen Option : 1

Q.48 उस विकल्प का चयन कीजिए, जो दिए गए शब्दों के उस सही क्रम को दर्शाता है, जिस क्रम में वे अंग्रेजी शब्दकोश में मौजूद होते हैं।

1. Authority
2. Automate
3. Authentic
4. Auspicious
5. Aureole

Ans ✗ 1, 3, 4, 5, 1, 2

✓ 2, 5, 4, 3, 1, 2

✗ 3, 4, 5, 3, 1, 2

✗ 4, 5, 3, 4, 1, 2

Question ID : 26433067246

Option 1 ID : 264330263496

Option 2 ID : 264330263498

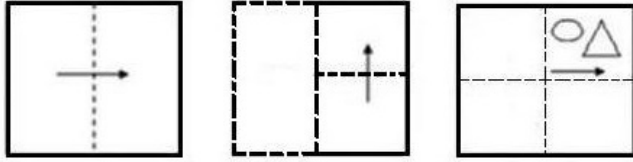
Option 3 ID : 264330263499

Option 4 ID : 264330263497

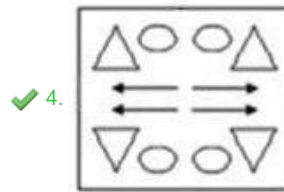
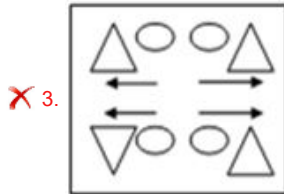
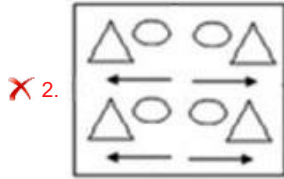
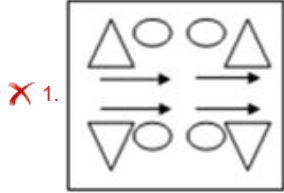
Status : Answered

Chosen Option : 2

Q.49 एक कागज को नीचे दिखाए गए अनुसार मोड़ा और काटा जाता है। खोले जाने पर यह कैसा दिखाई देगा?



Ans



Question ID : 26433091687  
 Option 1 ID : 264330360115  
 Option 2 ID : 264330360114  
 Option 3 ID : 264330360116  
 Option 4 ID : 264330360113  
 Status : Answered  
 Chosen Option : 4

Q.50 एक निश्चित कूट भाषा में, 'DOING' को 'BQTOV' और 'ZEBRA' को 'FAAKB' के रूप में लिखा जाता है। उसी कूट भाषा में 'STORM' को किस प्रकार लिखा जाएगा?

- Ans
- ✗ 1. PETBK
  - ✓ 2. MLNKP
  - ✗ 3. PRYSK
  - ✗ 4. MKYTS

Question ID : 26433074759  
 Option 1 ID : 264330293127  
 Option 2 ID : 264330293126  
 Option 3 ID : 264330293124  
 Option 4 ID : 264330293125  
 Status : Not Answered  
 Chosen Option : --

Q.1 केर और गरिया पूजा (Ker and Garia Puja) किस राज्य के पारंपरिक आदिवासी त्यौहार हैं?

- Ans
- 1. झारखंड
  - 2. मणिपुर
  - 3. त्रिपुरा
  - 4. ओडिशा

Question ID : 264330164806

Option 1 ID : 264330646351

Option 2 ID : 264330646354

Option 3 ID : 264330646353

Option 4 ID : 264330646352

Status : Answered

Chosen Option : 3

Q.2 भारत में, निम्नलिखित में से परिवहन का कौन-सा साधन पेट्रोलियम और गैस की आपूर्ति में वाहनांतरण (trans-shipment) की हानियों तथा देरी को कम करता है?

- Ans
- 1. जलमार्ग
  - 2. पाइपलाइन
  - 3. सड़क मार्ग
  - 4. रेलवे

Question ID : 264330132720

Option 1 ID : 264330519976

Option 2 ID : 264330519978

Option 3 ID : 264330519977

Option 4 ID : 264330519975

Status : Answered

Chosen Option : 2

Q.3 व्यापार उदारीकरण (Trade liberalisation) ने मध्यम से उच्च प्रौद्योगिकी सामग्री वाले उद्योगों में अपने \_\_\_\_\_ में सुधार करने में भारत की मदद की है।

- Ans
- 1. तुलनात्मक लाभ
  - 2. आयात
  - 3. श्रम तीव्रता
  - 4. ईंधन दक्षता

Question ID : 26433064580

Option 1 ID : 264330252914

Option 2 ID : 264330252912

Option 3 ID : 264330252913

Option 4 ID : 264330252915

Status : Answered

Chosen Option : 1

Q.4 संगीत नाटक अकादमी पुरस्कार प्राप्त करने वाले प्रभात सर्मा असम के एक \_\_\_\_\_ वादक थे।

- Ans
- 1. बांसुरी
  - 2. तबला
  - 3. घटम्
  - 4. सारंगी

Question ID : 264330145158

Option 1 ID : 264330568887

Option 2 ID : 264330568889

Option 3 ID : 264330568890

Option 4 ID : 264330568888

Status : Not Answered

Chosen Option : --

Q.5 निम्नलिखित में से कौन 1984 में नृत्य में पद्म विभूषण पुरस्कार प्राप्त करने वाले सबसे कम आयु के व्यक्ति थे ?

- Ans
- 1. राजेंद्र गंगानी
  - 2. एहसान हिलाल
  - 3. अभिमन्यु लाल
  - 4. पंडित बिरजू महाराज

Question ID : 26433054504  
Option 1 ID : 264330213000  
Option 2 ID : 264330213001  
Option 3 ID : 264330213003  
Option 4 ID : 264330213002  
Status : Answered  
Chosen Option : 4

Q.6 A government budget shows a primary deficit of ₹6,900 crore. The revenue expenditure on interest payment is ₹400 crore. Fiscal deficit is equal to:

- Ans
- 1. ₹6,900 crore
  - 2. ₹7,300 crore
  - 3. ₹7,100 crore
  - 4. ₹6,500 crore

Question ID : 264330145254  
Option 1 ID : 264330569273  
Option 2 ID : 264330569271  
Option 3 ID : 264330569274  
Option 4 ID : 264330569272  
Status : Answered  
Chosen Option : 4

Q.7 भारतीय संविधान का निम्नलिखित में से कौन सा अनुच्छेद प्रधानमंत्री और राष्ट्रपति के बीच के संबंधों से संबंधित है?

- Ans
- 1. अनुच्छेद 35
  - 2. अनुच्छेद 25
  - 3. अनुच्छेद 45
  - 4. अनुच्छेद 75

Question ID : 264330113416  
Option 1 ID : 264330445752  
Option 2 ID : 264330445751  
Option 3 ID : 264330445749  
Option 4 ID : 264330445750  
Status : Answered  
Chosen Option : 4

Q.8 भारत की जनगणना 2011 के अनुसार, किस महानगर की जनसंख्या सबसे अधिक है?

- Ans
- 1. पटना
  - 2. कोलकाता
  - 3. चेन्नई
  - 4. मुंबई

Question ID : 264330166806

Option 1 ID : 264330654262

Option 2 ID : 264330654261

Option 3 ID : 264330654260

Option 4 ID : 264330654259

Status : Answered

Chosen Option : 4

Q.9 निम्नलिखित में से कौन सा भारत का नागरिक बनने की शर्त के रूप में गलत तरीके से सूचीबद्ध किया गया है?

- Ans
- 1. वंश द्वारा नागरिकता
  - 2. जन्म से नागरिकता
  - 3. संपत्ति के अधिग्रहण के माध्यम से नागरिकता
  - 4. देशीकरण द्वारा नागरिकता

Question ID : 264330130475

Option 1 ID : 264330511012

Option 2 ID : 264330511011

Option 3 ID : 264330511013

Option 4 ID : 264330511014

Status : Answered

Chosen Option : 3

Q.10 कोशिका झिल्ली में प्रोटीन का प्रतिशत कितना होता है?

- Ans
- 1. 60-80%
  - 2. 40-60%
  - 3. 20-40%
  - 4. 80-100%

Question ID : 26433086610

Option 1 ID : 264330340083

Option 2 ID : 264330340082

Option 3 ID : 264330340081

Option 4 ID : 264330340084

Status : Not Answered

Chosen Option : --

Q.11 किस ब्रिटिश वैज्ञानिक को 1947 में इलेक्ट्रॉन सूक्ष्मदर्शी की विभेदन क्षमता में सुधार हेतु होलोग्राफी के सिद्धांत को विकसित करने के लिए जाना जाता है?

- Ans
- 1. लॉयड क्रॉस (Lloyd Cross)
  - 2. डेनिस गैबोर (Dennis Gabor)
  - 3. वर्नर हाइज़नबर्ग (Werner Heisenberg)
  - 4. चार्ल्स टाउन्स (Charles Towns)

Question ID : 264330141668

Option 1 ID : 264330554993

Option 2 ID : 264330554992

Option 3 ID : 264330554994

Option 4 ID : 264330554991

Status : Not Answered

Chosen Option : --



Q.12 एक राज्यपाल, अपने कार्यकाल की समाप्ति के बावजूद, कब तक पद पर बना रहेगा?

- Ans
- 1. विधायी सचिव के कार्यभार ग्रहण करने तक
  - 2. जब तक उसे मुख्यमंत्री की सहायता और सलाह प्राप्त है
  - 3. राष्ट्रपति की सहमति तक
  - 4. उसके उत्तराधिकारी द्वारा उसका पद ग्रहण करने तक

Question ID : 264330145265

Option 1 ID : 264330569315

Option 2 ID : 264330569317

Option 3 ID : 264330569316

Option 4 ID : 264330569318

Status : Answered

Chosen Option : 4

Q.13 निम्नलिखित में से किस पंचवर्षीय योजना को पहली बार मुख्य उद्देश्य के रूप में गरीबी उन्मूलन के मुद्दे पर केन्द्रित किया था?

- Ans
- 1. चौथी पंचवर्षीय योजना
  - 2. तीसरी पंचवर्षीय योजना
  - 3. पांचवी पंचवर्षीय योजना
  - 4. छठी पंचवर्षीय योजना

Question ID : 264330145228

Option 1 ID : 264330569168

Option 2 ID : 264330569167

Option 3 ID : 264330569169

Option 4 ID : 264330569170

Status : Answered

Chosen Option : 3

Q.14 गुरु बिपिन सिंह, जिन्हें 1966 में संगीत नाटक अकादमी पुरस्कार, और मध्य प्रदेश सरकार द्वारा कालिदास सम्मान से सम्मानित किया गया था, निम्नलिखित में से किस भारतीय शास्त्रीय नृत्य के प्रतिपादक (exponent) थे?

- Ans
- 1. ओडिसी
  - 2. कुचिपुड़ी
  - 3. कथक
  - 4. मणिपुरी

Question ID : 264330145153

Option 1 ID : 264330568867

Option 2 ID : 264330568869

Option 3 ID : 264330568868

Option 4 ID : 264330568870

Status : Answered

Chosen Option : 4

Q.15 भारत सरकार द्वारा, तापमान, वर्षा, पवन आदि से संबंधित डेटा एकत्र करने और मौसम का पूर्वानुमान लगाने के लिए जिम्मेदार, भारतीय मौसम विभाग की स्थापना कब की गई थी?

- Ans
- 1. 1879
  - 2. 1875
  - 3. 1873
  - 4. 1876

Question ID : 264330145191  
Option 1 ID : 264330569022  
Option 2 ID : 264330569020  
Option 3 ID : 264330569019  
Option 4 ID : 264330569021  
Status : Not Answered  
Chosen Option : --

Q.16 विश्व में सर्वाधिक वर्षा वाला स्थान मासिनराम किस पहाड़ी पर स्थित है?

- Ans
- 1. मिशमी पहाड़ी
  - 2. खासी पहाड़ी
  - 3. राजमहल पहाड़ी
  - 4. पटकाई पहाड़ी

Question ID : 264330119785  
Option 1 ID : 264330469415  
Option 2 ID : 264330469417  
Option 3 ID : 264330469416  
Option 4 ID : 264330469418  
Status : Answered  
Chosen Option : 4

Q.17 पंडित रविशंकर ने प्रमुखतः निम्न में से किस वाद्य यंत्र को पूरी दुनिया में लोकप्रिय बनाया?

- Ans
- 1. वीणा
  - 2. हारमोनियम
  - 3. तबला
  - 4. सितार

Question ID : 26433074853  
Option 1 ID : 264330293501  
Option 2 ID : 264330293502  
Option 3 ID : 264330293500  
Option 4 ID : 264330293503  
Status : Answered  
Chosen Option : 4

Q.18 भारतीय संविधान में मूल कर्तव्यों को किसकी सिफारिश पर शामिल किया गया था?

- Ans
- 1. एल.एम. सिंघवी समिति
  - 2. सरदार स्वर्ण सिंह समिति
  - 3. बलवंत राय मेहता समिति
  - 4. विवेक देवराय समिति

Question ID : 264330111511  
Option 1 ID : 264330438131  
Option 2 ID : 264330438130  
Option 3 ID : 264330438129  
Option 4 ID : 264330438132  
Status : Answered  
Chosen Option : 2

Q.19 निम्नलिखित में से किस वर्ष में मुस्लिम लीग का गठन किया गया था?

- Ans  1. 1906  
 2. 1909  
 3. 1915  
 4. 1912

Question ID : 264330112345  
Option 1 ID : 264330441468  
Option 2 ID : 264330441467  
Option 3 ID : 264330441465  
Option 4 ID : 264330441466  
Status : Answered  
Chosen Option : 2

Q.20 पृथ्वी का उपसौर \_\_\_\_\_ में घटित होता है।

- Ans  1. अक्टूबर  
 2. जनवरी  
 3. सितंबर  
 4. जुलाई

Question ID : 264330131737  
Option 1 ID : 264330516050  
Option 2 ID : 264330516047  
Option 3 ID : 264330516049  
Option 4 ID : 264330516048  
Status : Answered  
Chosen Option : 2

Q.21 निम्नलिखित में से कौन-सा नृत्य राधा और कृष्ण की रासलीला विषय वस्तु पर आधारित है?

- Ans  1. मोहिनीअट्टम  
 2. कथक  
 3. सत्रीया नृत्य  
 4. मणिपुरी नृत्य

Question ID : 264330164790  
Option 1 ID : 264330646290  
Option 2 ID : 264330646288  
Option 3 ID : 264330646289  
Option 4 ID : 264330646287  
Status : Answered  
Chosen Option : 3

Q.22 प्रशासन में दीवान-ए-इंशा का कार्यालय किस मामले से संबंधित था?

- Ans  1. सैन्य  
 2. धार्मिक मामले  
 3. वित्त  
 4. राज्य पत्राचार

Question ID : 264330109006  
Option 1 ID : 264330428303  
Option 2 ID : 264330428302  
Option 3 ID : 264330428304  
Option 4 ID : 264330428301  
Status : Answered  
Chosen Option : 4

Q.23 हॉकी के खेल के दौरान, किसी उल्लंघन (offence) के बाद, यदि किसी खिलाड़ी को पीला कार्ड (yellow card) दिखाया जाता है, तो उसे \_\_\_\_\_ के लिए पिच से बाहर भेज दिया जाएगा।

- Ans
- 1. 4 मिनट
  - 2. 5 मिनट
  - 3. 6 मिनट
  - 4. 3 मिनट

Question ID : 264330109854  
Option 1 ID : 264330431694  
Option 2 ID : 264330431695  
Option 3 ID : 264330431696  
Option 4 ID : 264330431693  
Status : Not Answered  
Chosen Option : --

Q.24 12वीं पंचवर्षीय योजना की अवधि \_\_\_\_\_ से \_\_\_\_\_ तक थी।

- Ans
- 1. 1987 - 1992
  - 2. 1990 - 1995
  - 3. 2007 - 2012
  - 4. 2012 - 2017

Question ID : 264330145251  
Option 1 ID : 264330569262  
Option 2 ID : 264330569261  
Option 3 ID : 264330569260  
Option 4 ID : 264330569259  
Status : Answered  
Chosen Option : 4

Q.25 निम्नलिखित में से कौन-सा सही कथन है?

- Ans
- 1. जूल/सेकंड भी ऊर्जा की एक इकाई है।
  - 2. शक्ति की इकाई जूल/न्यूटन है।
  - 3. ऊर्जा की इकाई वाट है।
  - 4. कार्य की इकाई जूल है।

Question ID : 264330111860  
Option 1 ID : 264330439528  
Option 2 ID : 264330439525  
Option 3 ID : 264330439526  
Option 4 ID : 264330439527  
Status : Answered  
Chosen Option : 4

Q.26 गोवा की किस नृत्य शैली को 'योद्धा नृत्य' के नाम से भी जाना जाता है?

- Ans
- 1. लावणी
  - 2. रऊफ
  - 3. घोड़े मोदनी
  - 4. बिहू

Question ID : 26433092388  
Option 1 ID : 264330362844  
Option 2 ID : 264330362843  
Option 3 ID : 264330362842  
Option 4 ID : 264330362841  
Status : Answered  
Chosen Option : 3

Q.27 कोपाकबाना समुद्र तट (Copacabana beach) \_\_\_\_\_ में स्थित है।

- Ans
- 1. ऑस्ट्रेलिया
  - 2. पेरू
  - 3. ब्राज़ील
  - 4. मैक्सिको

Question ID : 26433054947  
Option 1 ID : 264330214772  
Option 2 ID : 264330214774  
Option 3 ID : 264330214773  
Option 4 ID : 264330214775  
Status : Not Answered  
Chosen Option : --

Q.28 उत्तर भारत में गुर्जर प्रतिहार, पूर्वी भारत में पाल और दक्षिण भारत में \_\_\_\_\_ के बीच त्रिपक्षीय संघर्ष था।

- Ans
- 1. राष्ट्रकूट
  - 2. मराठा
  - 3. चेरा
  - 4. चोल

Question ID : 264330165356  
Option 1 ID : 264330648505  
Option 2 ID : 264330648506  
Option 3 ID : 264330648503  
Option 4 ID : 264330648504  
Status : Answered  
Chosen Option : 1

Q.29 हजीरा-विजयपुर-जगदीशपुर (HVJ) पाइपलाइन परियोजना के निर्माण, संचालन और रखरखाव की जिम्मेदारी किस कंपनी को दी गई है?

- Ans
- 1. तेल और प्राकृतिक गैस निगम (ONGC)
  - 2. टाटा पेट्रोड्राइन लिमिटेड (TPL)
  - 3. भारतीय गैस प्राधिकरण (GAIL)
  - 4. रिलायंस इंडस्ट्रीज लिमिटेड (RIL)

Question ID : 264330111326  
Option 1 ID : 264330437389  
Option 2 ID : 264330437390  
Option 3 ID : 264330437392  
Option 4 ID : 264330437391  
Status : Not Answered  
Chosen Option : --

Q.30 निम्नलिखित में से कौन-सी अशुद्ध धातुओं के शोधन के लिए सर्वाधिक व्यापक रूप से उपयोग की जाने वाली विधि है?

- Ans
- 1. वाष्प प्रावस्था परिष्करण (Vapour-Phase Refining)
  - 2. द्रवीकरण परिष्करण (Liquidation Refining)
  - 3. दंड-विलोडन परिष्करण (Poling Refining)
  - 4. विद्युत-अपघटनी परिष्करण (Electrolytic Refining)

Question ID : 264330131684  
Option 1 ID : 264330515835  
Option 2 ID : 264330515837  
Option 3 ID : 264330515838  
Option 4 ID : 264330515836  
Status : Answered  
Chosen Option : 4

Q.31 पूना, सतारा और महाराष्ट्र के अन्य शहरों में निम्नलिखित में से कौन सा संगठन स्थापित किया गया था जिसने ब्राह्मणवादी रूढ़िवाद के खिलाफ कार्य किया और हिंदू धर्म में सुधार का प्रयास किया?

- Ans
- 1. परमहंस मंडली
  - 2. रामकृष्ण मिशन
  - 3. आर्य समाज
  - 4. ब्रह्म समाज

Question ID : 264330165399  
Option 1 ID : 264330648675  
Option 2 ID : 264330648676  
Option 3 ID : 264330648677  
Option 4 ID : 264330648678  
Status : Answered  
Chosen Option : 3

Q.32 निम्नलिखित कथनों में से कौन सा कथन सही है?

- Ans
- 1. ब्रायोफाइटों और टेरिडोफाइटों में नर युग्मकों का परिवहन जल के माध्यम से होता है।
  - 2. आवृत्तबीजियों में नर युग्मकों का परिवहन जल के माध्यम से होता है।
  - 3. अनावृत्तबीजियों में नर युग्मकों का परिवहन जल के माध्यम से होता है।
  - 4. ब्रायोफाइटों और टेरिडोफाइटों में नर युग्मकों का परिवहन वायु के माध्यम से होता है।

Question ID : 26433089668  
Option 1 ID : 264330352176  
Option 2 ID : 264330352174  
Option 3 ID : 264330352173  
Option 4 ID : 264330352175  
Status : Not Answered  
Chosen Option : --

Q.33 मेहरानगढ़ किला निम्नलिखित में से किस शहर में स्थित है?

- Ans
- 1. कोटा
  - 2. बीकानेर
  - 3. जयपुर
  - 4. जोधपुर

Question ID : 264330164850  
Option 1 ID : 264330646529  
Option 2 ID : 264330646527  
Option 3 ID : 264330646528  
Option 4 ID : 264330646530  
Status : Answered  
Chosen Option : 4

Q.34 'द मूरस लास्ट साई (The Moor's Last Sigh)' उपन्यास के लेखक कौन हैं?

- Ans  1. सलमान रुश्दी  
 2. जॉन की  
 3. किरण दोशी  
 4. वीएस नायपॉल

Question ID : 264330145174  
Option 1 ID : 264330568952  
Option 2 ID : 264330568953  
Option 3 ID : 264330568954  
Option 4 ID : 264330568951  
Status : Answered  
Chosen Option : 2

Q.35 मार्शल लॉ की अवधारणा, जो मूल अधिकारों को प्रतिबंधित करती है, किस देश से ली गई है?

- Ans  1. यूके (UK)  
 2. जापान  
 3. यूएसएसआर (USSR)  
 4. चीन

Question ID : 264330113392  
Option 1 ID : 264330445654  
Option 2 ID : 264330445653  
Option 3 ID : 264330445656  
Option 4 ID : 264330445655  
Status : Answered  
Chosen Option : 3

Q.36 वृक्ष किस स्तर के अंतर्गत आते हैं?

- Ans  1. सर्वोपरि ऊर्ध्वाधर (Top vertical)  
 2. मध्य ऊर्ध्वाधर (Middle vertical)  
 3. द्वितीय ऊर्ध्वाधर (Second vertical)  
 4. निचला ऊर्ध्वाधर (Bottom vertical)

Question ID : 264330145214  
Option 1 ID : 264330569111  
Option 2 ID : 264330569113  
Option 3 ID : 264330569112  
Option 4 ID : 264330569114  
Status : Answered  
Chosen Option : 1

Q.37 जब न्यायालय को पता चलता है कि किसी व्यक्ति की गैर-कानूनी गिरफ्तारी हुई है, तब कौन-सी रिट जारी की जाती है?

- Ans  1. बंदी प्रत्यक्षीकरण (Habeas corpus)  
 2. परमादेश (Mandamus)  
 3. अधिकार पृच्छा (Quo warranto)  
 4. निषेध/प्रतिषेध (Prohibition)

Question ID : 264330116397  
Option 1 ID : 264330457673  
Option 2 ID : 264330457674  
Option 3 ID : 264330457676  
Option 4 ID : 264330457675  
Status : Answered  
Chosen Option : 3

Q.38 टोक्यो ओलंपिक 2020 में भारत की रैंक कितनी है?

- Ans
- 1. 49
  - 2. 46
  - 3. 47
  - 4. 48

Question ID : 264330109684  
Option 1 ID : 264330431016  
Option 2 ID : 264330431013  
Option 3 ID : 264330431014  
Option 4 ID : 264330431015  
Status : Answered  
Chosen Option : 4

Q.39 भारत में निम्नलिखित में से किस सूक्ष्म वित्त संस्थान की स्थापना स्वतंत्रता के समय की गई थी?

- Ans
- 1. स्वयं सहायता समूह (Self Help Group)
  - 2. संयुक्त देयता समूह (Joint Liability Group)
  - 3. ग्रामीण सहकारी (Rural Cooperatives)
  - 4. ग्रामीण मॉडल बैंक (Grameen Model Bank)

Question ID : 264330145234  
Option 1 ID : 264330569193  
Option 2 ID : 264330569192  
Option 3 ID : 264330569191  
Option 4 ID : 264330569194  
Status : Answered  
Chosen Option : 4

Q.40 निम्नलिखित में से कौन-सा अंतिम मौर्य शासक था जिसकी हत्या उसके सेनापति ने कर दी थी?

- Ans
- 1. शतधन्वन
  - 2. दशरथ
  - 3. बिंदुसार
  - 4. बृहद्रथ

Question ID : 264330165558  
Option 1 ID : 264330649314  
Option 2 ID : 264330649311  
Option 3 ID : 264330649312  
Option 4 ID : 264330649313  
Status : Answered  
Chosen Option : 4

Q.41 निम्नलिखित में से कौन-सा जड़त्व आघूर्ण के लिए सही सूत्र है?

- Ans
- 1.  $I = rm^2$
  - 2.  $I = mr^2$
  - 3.  $I = 2mr$
  - 4.  $I = m/r^2$

Question ID : 264330111862  
Option 1 ID : 264330439536  
Option 2 ID : 264330439534  
Option 3 ID : 264330439535  
Option 4 ID : 264330439533  
Status : Answered  
Chosen Option : 2



Q.42 निम्नलिखित में से किसने 1920 में ताशकंद में एक प्रवासी भारतीय कम्युनिस्ट पार्टी की स्थापना की थी?

- Ans
- 1. पी सी जोशी
  - 2. श्रीपाद अमृत डांगे
  - 3. एम एन रॉय
  - 4. जॉली कौल

Question ID : 264330106615  
Option 1 ID : 264330418762  
Option 2 ID : 264330418761  
Option 3 ID : 264330418764  
Option 4 ID : 264330418763  
Status : Answered  
Chosen Option : 3

Q.43 चम्बल, हिंडन और टोंस (Chambal, Hindon and Tons) नदियाँ निम्न में से किस नदी की सहायक नदियाँ हैं?

- Ans
- 1. महानदी
  - 2. तापी
  - 3. यमुना
  - 4. कावेरी

Question ID : 264330169992  
Option 1 ID : 264330666645  
Option 2 ID : 264330666646  
Option 3 ID : 264330666643  
Option 4 ID : 264330666644  
Status : Answered  
Chosen Option : 3

Q.44 'द रेस ऑफ़ माई लाइफ़' निम्नलिखित में से किस खिलाड़ी की आत्मकथा है?

- Ans
- 1. पी.टी. उषा
  - 2. मिल्खा सिंह
  - 3. सौरव गांगुली
  - 4. मैरी कॉम

Question ID : 26433071672  
Option 1 ID : 264330281115  
Option 2 ID : 264330281113  
Option 3 ID : 264330281112  
Option 4 ID : 264330281114  
Status : Answered  
Chosen Option : 2

Q.45 1784 में, हाइड्रोजन और ऑक्सीजन के साथ अपने प्रयोग की मदद से जल की संरचना की खोज किसने की थी?

- Ans
- 1. जॉन डाल्टन
  - 2. जोसेफ प्रीस्टली
  - 3. हेनरी कैवेंडिश
  - 4. हर्बर्ट सी. ब्राउन

Question ID : 264330145222  
Option 1 ID : 264330569144  
Option 2 ID : 264330569145  
Option 3 ID : 264330569146  
Option 4 ID : 264330569143  
Status : Answered  
Chosen Option : 2

Q.46 दिए गए संकेतों के आधार पर सांस्कृतिक उत्सव की पहचान करें:

i) यह उत्सव पूरे भारत के कुम्हार, कढ़ाई करने वाले, बुनकर, लकड़ी पर नक्काशी करने वाले, धातु के काम करने वाले, पत्थर की वस्तु बनाने वाले और चित्रकारों जैसे शिल्पकारों को हरियाणा में एक मंच पर लाता है।

ii) यह शिल्प मेला हर साल फरवरी में आयोजित किया जाता है, और राज्य की सांस्कृतिक विरासत और हाल ही की उपलब्धियों की एक झलक प्रदान करता है।

- Ans
- 1. कपिल मुनि मेला
  - 2. शामलाजी मेला
  - 3. सूरजकुंड मेला
  - 4. चित्र विचित्र मेला

Question ID : 26433054217

Option 1 ID : 264330211853

Option 2 ID : 264330211852

Option 3 ID : 264330211854

Option 4 ID : 264330211855

Status : Answered

Chosen Option : 3

Q.47 मनीषा कल्याण निम्नलिखित में से किस खेल से संबंधित है?

- Ans
- 1. हॉकी
  - 2. क्रिकेट
  - 3. फुटबॉल
  - 4. शतरंज

Question ID : 264330109689

Option 1 ID : 264330431034

Option 2 ID : 264330431035

Option 3 ID : 264330431033

Option 4 ID : 264330431036

Status : Answered

Chosen Option : 3

Q.48 निम्नलिखित में से कौन-सा 1897 में खोजा गया पहला विटामिन B था, जो अमीनो अम्ल और कार्बोहाइड्रेट उपापचय में अनिवार्य होता है, और ऊर्जा उत्पादन अभिक्रियाओं में सक्रिय होता है?

- Ans
- 1. थायमीन (Thiamine)
  - 2. राइबोफ्लेविन (Riboflavin)
  - 3. बायोटिन (Biotin)
  - 4. फोलेट (Folate)

Question ID : 264330145202

Option 1 ID : 264330569063

Option 2 ID : 264330569064

Option 3 ID : 264330569065

Option 4 ID : 264330569066

Status : Answered

Chosen Option : 1

Q.49 सैयद मोदी इंडिया इंटरनेशनल किस खेल में आयोजित किया जाता है?

- Ans  1. बैडमिंटन  
 2. शतरंज  
 3. कबड्डी  
 4. वॉलीबॉल

Question ID : 264330119247

Option 1 ID : 264330467276

Option 2 ID : 264330467277

Option 3 ID : 264330467278

Option 4 ID : 264330467275

Status : Answered

Chosen Option : 4

Q.50 2011 की जनगणना के अनुसार, किस केंद्र शासित प्रदेश में सर्वाधिक पुरुष साक्षरता दर दर्ज की गई?

- Ans  1. दिल्ली  
 2. दमन और दीव  
 3. लक्षद्वीप  
 4. अंडमान एवं निकोबार द्वीप समूह

Question ID : 264330110659

Option 1 ID : 264330434913

Option 2 ID : 264330434916

Option 3 ID : 264330434914

Option 4 ID : 264330434915

Status : Answered

Chosen Option : 3

Section : Quantitative Aptitude

Q.1 300 m की दूरी से एक पुलिसकर्मी ने एक चोर को देखा। पुलिस को देखते ही चोर भागने लगता है, और पुलिसकर्मी उसका पीछा करने लगता है। चोर और पुलिसकर्मी क्रमशः 11 km/h और 13 km/h की चाल से दौड़ते हैं। कितने किलोमीटर दौड़ने के बाद पुलिसकर्मी चोर को पकड़ पाएगा?

- Ans  1. 1.65  
 2. 1.95  
 3. 1.75  
 4. 1.85

Question ID : 26433082987

Option 1 ID : 264330325781

Option 2 ID : 264330325784

Option 3 ID : 264330325782

Option 4 ID : 264330325783

Status : Answered

Chosen Option : 2

Q.2 ₹1,940 के अंकित मूल्य वाली एक वस्तु को 15% की छूट पर बेचा गया। वस्तु किस मूल्य पर (₹में) बेची गई?

- Ans  1. 1659  
 2. 1654  
 3. 1649  
 4. 1639

Question ID : 264330131157  
Option 1 ID : 264330513739  
Option 2 ID : 264330513742  
Option 3 ID : 264330513740  
Option 4 ID : 264330513741  
Status : Answered  
Chosen Option : 3

Q.3 वह बड़ी से बड़ी संभावित लंबाई (m में) ज्ञात कीजिए, जिसका उपयोग 6 m, 5 m 25 cm और 12 m 50 cm की लंबाइयों को पूर्णतः मापने के लिए किया जा सकता है।

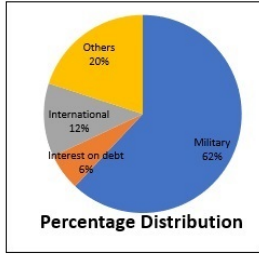
- Ans  1. 0.75 m  
 2. 0.35 m  
 3. 0.90 m  
 4. 0.25 m

Question ID : 26433073063  
Option 1 ID : 264330286445  
Option 2 ID : 264330286446  
Option 3 ID : 264330286444  
Option 4 ID : 264330286447  
Status : Not Answered  
Chosen Option : --

KD JOB UPDATES

Q.4 दिए गए पाई-चार्ट का अध्ययन कीजिए और निम्नलिखित प्रश्न का उत्तर दीजिए।

पाई-चार्ट, वर्ष 2019 में राष्ट्रीय बजट व्यय को दर्शाता है।



Percentage Distribution = प्रतिशत वितरण ,Military = सैन्य ,Interest on debt = ऋण पर ब्याज,  
International = अंतर्राष्ट्रीय ,Others = अन्य

यदि वर्ष 2019 में ऋण पर ब्याज और सेना के लिए ₹850 बिलियन खर्च किए गए होते, तो उस वर्ष के लिए कुल व्यय (₹ बिलियन में) कितना होता?

- Ans  1. 1,250  
 2. 1,300  
 3. 1,700  
 4. 1,450

Question ID : 264330158281

Option 1 ID : 264330620486

Option 2 ID : 264330620485

Option 3 ID : 264330620483

Option 4 ID : 264330620484

Status : Not Answered

Chosen Option : --

Q.5 एक त्रिभुज ABC के लिए, D और E, AB और AC पर दो बिंदु हैं जो इस प्रकार हैं कि  $AD = \frac{1}{6} AB$ ,  $AE = \frac{1}{6} AC$  होता है। यदि  $BC = 22$  cm है, तो DE ज्ञात कीजिए। (दो दशमलव स्थान तक विचार करें)

- Ans  1. 3.67 cm  
 2. 1.33 cm  
 3. 1.67 cm  
 4. 3.33 cm

Question ID : 264330145114

Option 1 ID : 264330568713

Option 2 ID : 264330568714

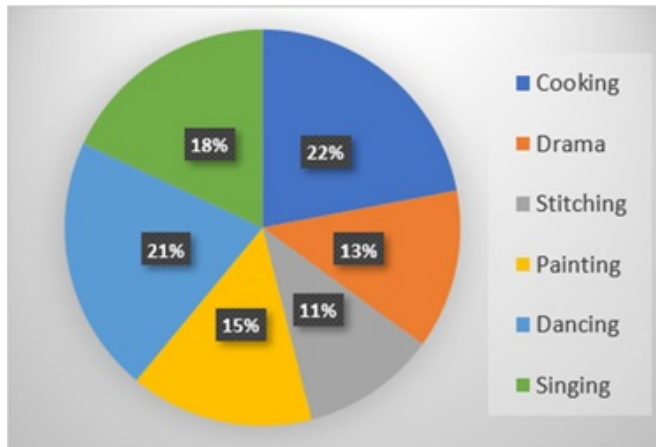
Option 3 ID : 264330568711

Option 4 ID : 264330568712

Status : Not Answered

Chosen Option : --

Q.6 दिए गए पाई-चार्ट का अध्ययन करें, और निम्नलिखित प्रश्न का उत्तर दें।  
निम्न पाई-चार्ट एक स्कूल में विभिन्न हॉबी कक्षाओं में नामांकित 3600 विद्यार्थियों के प्रतिशत को दर्शाता है।



Cooking = कुकिंग, Drama = ड्रामा, Stitching = स्टिचिंग, Painting = पेंटिंग, Dancing = डांसिंग,  
Singing = सिंगिंग  
पेंटिंग कक्षाओं में नामांकित विद्यार्थियों की संख्या, सिंगिंग कक्षाओं में नामांकित विद्यार्थियों की संख्या के लगभग कितने प्रतिशत के बराबर है?

- Ans
- 1. 98%
  - 2. 83%
  - 3. 108%
  - 4. 78%

Question ID : 264330157735

Option 1 ID : 264330618301

Option 2 ID : 264330618300

Option 3 ID : 264330618302

Option 4 ID : 264330618299

Status : Answered

Chosen Option : 2

Q.7 निम्नलिखित व्यंजक का मान क्या है?

$$\frac{a^2 - b^2 - 2bc - c^2}{a^2 + b^2 + 2ab - c^2}$$

- Ans
- 1.  $\frac{a - b - c}{a + b - c}$
  - 2.  $\frac{a + b - c}{a - b - c}$
  - 3.  $\frac{a + b + c}{a - b - c}$
  - 4.  $\frac{a - b + c}{a + b - c}$

Question ID : 264330157767

Option 1 ID : 264330618429

Option 2 ID : 264330618428

Option 3 ID : 264330618430

Option 4 ID : 264330618427

Status : Not Answered

Chosen Option : --

Q.8 यदि  $a \propto b$ ,  $b \propto \frac{1}{c}$  और  $c \propto d$  है, तो  $a$  और  $d$  के बीच क्या संबंध है?

- Ans
- 1.  $a \propto d$
  - 2.  $a \propto \sqrt{d}$
  - 3.  $a \propto d^2$
  - 4.  $a \propto \frac{1}{d}$

Question ID : 264330145072

Option 1 ID : 264330568543

Option 2 ID : 264330568546

Option 3 ID : 264330568545

Option 4 ID : 264330568544

Status : Answered

Chosen Option : 4

Q.9 दी गई तालिका चार छात्रों द्वारा चार विषयों में प्राप्त अंकों को दर्शाती है।

छात्र \ विषय	गणित (100)	अँग्रेजी (100)	विज्ञान (100)	हिंदी (100)
A	75	80	75	85
B	80	70	70	80
C	70	85	85	75
D	85	75	80	70

सभी छात्रों द्वारा हिंदी में प्राप्त अंकों का औसत प्रतिशत कितना है?

- Ans
- 1. 77.6%
  - 2. 77.8%
  - 3. 77.5%
  - 4. 77.0%

Question ID : 264330165488

Option 1 ID : 264330649031

Option 2 ID : 264330649034

Option 3 ID : 264330649033

Option 4 ID : 264330649032

Status : Answered

Chosen Option : 3

Q.10 दिए गए व्यंजक का मान क्या है?

$$\frac{1}{12} + \frac{1}{16} + \frac{1}{8}$$

- Ans
- 1.  $\frac{3}{48}$
  - 2.  $\frac{13}{18}$
  - 3.  $\frac{10}{72}$
  - 4.  $\frac{13}{48}$

Question ID : 26433063280  
Option 1 ID : 264330247772  
Option 2 ID : 264330247774  
Option 3 ID : 264330247775  
Option 4 ID : 264330247773  
Status : Answered  
Chosen Option : 4

Q.11 P और Q मिलकर एक कार्य को 30 दिनों में पूरा कर सकते हैं। Q और R मिलकर उसी कार्य को 24 दिनों में पूरा कर सकते हैं, तथा R और P मिलकर उसी कार्य को 20 दिनों में पूरा कर सकते हैं। उन्होंने एक साथ कार्य करना शुरू किया, लेकिन Q और R ने 10 दिनों के बाद कार्य छोड़ दिया। शेष कार्य को पूरा करने में P को और कितने दिनों का समय लगेगा?

- Ans
- 1. 21
  - 2. 18
  - 3. 23
  - 4. 19

Question ID : 264330122719  
Option 1 ID : 264330480973  
Option 2 ID : 264330480971  
Option 3 ID : 264330480974  
Option 4 ID : 264330480972  
Status : Answered  
Chosen Option : 2

Q.12 सुखवीर ने बिक्री के लिए कुछ खराब होने वाली चीजें खरीदीं, लेकिन उनमें से 30% चीजें बेची नहीं जा सकीं, और खराब हो गईं। हालांकि, सुखवीर बाकी वस्तुओं को उस मूल्य पर बेचने में कामयाब रहा, जिससे उसे 19% का समग्र लाभ अर्जित करने में मदद मिली। सुखवीर ने खरीदी गई प्रत्येक वस्तु के क्रय मूल्य की तुलना में, खराब नहीं हुई प्रत्येक वस्तु को कितने प्रतिशत अधिक मूल्य पर बेचा?

- Ans
- 1. 75%
  - 2. 49%
  - 3. 70%
  - 4. 63%

Question ID : 264330103260  
Option 1 ID : 264330405348  
Option 2 ID : 264330405346  
Option 3 ID : 264330405347  
Option 4 ID : 264330405345  
Status : Not Answered  
Chosen Option : --



Q.13 एक लंब वृत्तीय शंकु का आयतन  $196\pi \text{ cm}^3$  है, और इसके आधार का व्यास 14 cm है। इसकी लंबवत ऊंचाई (perpendicular height) ज्ञात कीजिए।

- Ans  1. 8 cm  
 2. 12 cm  
 3. 10 cm  
 4. 14 cm

Question ID : 264330145117

Option 1 ID : 264330568723

Option 2 ID : 264330568725

Option 3 ID : 264330568724

Option 4 ID : 264330568726

Status : Answered

Chosen Option : 2

Q.14 ट्रेन 'A' को 36 km/h की चाल से सम्मुख दिशा में चल रही 300 m लंबाई वाली ट्रेन 'B' को पार करने में 15 सेकंड का समय लगता है। इसके अलावा, ट्रेन 'A' को 500 m लंबी एक स्थिर ट्रेन 'C' को पार करने में 30 सेकंड का समय लगता है। ट्रेन 'A' की लंबाई (m में) ज्ञात करें।

- Ans  1. 250  
 2. 300  
 3. 200  
 4. 275

Question ID : 264330103990

Option 1 ID : 264330408263

Option 2 ID : 264330408261

Option 3 ID : 264330408264

Option 4 ID : 264330408262

Status : Not Answered

Chosen Option : --

Q.15 A एक कार्य को 8 दिन में कर सकता है, जबकि B इसे 7 दिन में कर सकता है। यदि वे उस पर A से शुरू करते हुए बारी-बारी से कार्य करते हैं, तो कार्य कितने दिनों में पूरा हो जाएगा?

- Ans  1. 8  
 2.  $7\frac{1}{2}$   
 3.  $8\frac{1}{2}$   
 4. 7

Question ID : 26433082414

Option 1 ID : 264330323491

Option 2 ID : 264330323490

Option 3 ID : 264330323492

Option 4 ID : 264330323489

Status : Answered

Chosen Option : 2

Q.16 दी गई तालिका का अध्ययन कीजिए, और नीचे दिए गए प्रश्न का उत्तर दीजिए।  
दी गई तालिका एक कंपनी द्वारा वर्ष 1989 से 1994 तक पाँच प्रकार की कारों P, Q, R, S और T के उत्पादन को दर्शाती है।

कार के प्रकार	1989	1990	1991	1992	1993	1994	कुल
P	8	20	16	17	21	6	88
Q	16	10	14	12	12	14	78
R	21	17	16	15	13	8	90
S	4	6	10	16	20	31	87
T	25	18	19	30	14	27	133
कुल	74	71	75	90	80	86	476

1989-94 की अवधि के दौरान, किस प्रकार की कार के उत्पादन में लगातार वृद्धि हुई है?

- Ans  1. R  
 2. S  
 3. P  
 4. Q

Question ID : 264330165465

Option 1 ID : 264330648941

Option 2 ID : 264330648942

Option 3 ID : 264330648939

Option 4 ID : 264330648940

Status : Answered

Chosen Option : 2

Q.17 दी गई तालिका का अध्ययन कीजिए और उसके बाद दिए गए प्रश्न का उत्तर दीजिए।  
तालिका विभिन्न शहरों में विभिन्न कोर्स करने वाले विद्यार्थियों की संख्या दर्शाती है।

शहर	MBA	MCA	M.Sc.	M.Com.	M.A.	Total
अहमदाबाद	1234	1384	1440	1289	1332	6679
बेंगलुरु	1156	1783	1874	1003	1340	7156
भोपाल	1187	1347	1532	1321	1486	6873
चेन्नई	1342	1473	1129	1765	1666	7375
नई दिल्ली	1230	1098	1128	1865	1777	7098
हैदराबाद	1456	1234	1556	1653	1789	7688
कोलकाता	1239	1785	1865	1504	1762	8155

चेन्नई में, MBA के विद्यार्थियों की संख्या M.A के विद्यार्थियों की संख्या का लगभग कितना प्रतिशत है? (दशमलव के 2 स्थानों तक पूर्णांकित)

- Ans  1. 76.25%  
 2. 99.23%  
 3. 80.55%  
 4. 92.12%

Question ID : 264330145102

Option 1 ID : 264330568663

Option 2 ID : 264330568666

Option 3 ID : 264330568664

Option 4 ID : 264330568665

Status : Answered

Chosen Option : 3

Q.18 यह देखते हुए कि मतदाताओं की कुल संख्या 1,46,000 है, यदि चुनाव में किसी उम्मीदवार को कुल वैध मतों के 75% मत प्राप्त हुए, और कुल मतों के 5% मत अमान्य घोषित किए गए, तो चुनाव में उम्मीदवार के पक्ष में डाले गए वैध मतों की संख्या ज्ञात कीजिए।

- Ans  1. 1,04,025  
 2. 1,08,850  
 3. 1,06,650  
 4. 1,10,250

Question ID : 264330157711  
Option 1 ID : 264330618206  
Option 2 ID : 264330618204  
Option 3 ID : 264330618205  
Option 4 ID : 264330618203  
Status : Answered  
Chosen Option : 1

Q.19 वह बड़ी से बड़ी संख्या ज्ञात कीजिए, जिससे 261, 853 और 1221 को विभाजित करने पर प्रत्येक स्थिति में 5 शेषफल बचता है।

- Ans  1. 17  
 2. 19  
 3. 18  
 4. 16

Question ID : 26433073062  
Option 1 ID : 264330286441  
Option 2 ID : 264330286443  
Option 3 ID : 264330286442  
Option 4 ID : 264330286440  
Status : Answered  
Chosen Option : 4

Q.20  $\frac{\cos 65^\circ}{\sin 25^\circ} + \frac{5 \sin 19^\circ}{\cos 71^\circ} - \frac{3 \cos 28^\circ}{\sin 62^\circ}$  का मान ज्ञात कीजिए।

- Ans  1. 2  
 2. 3  
 3. 0  
 4. 1

Question ID : 264330158292  
Option 1 ID : 264330620529  
Option 2 ID : 264330620530  
Option 3 ID : 264330620527  
Option 4 ID : 264330620528  
Status : Answered  
Chosen Option : 2

Q.21  $\frac{1}{3}, \frac{3}{5}, \frac{4}{7}$  और  $\frac{9}{16}$  का एलसीएम (LCM) क्या है?

- Ans
- 1. 81
  - 2. 38
  - 3. 49
  - 4. 36

Question ID : 264330145041

Option 1 ID : 264330568422

Option 2 ID : 264330568420

Option 3 ID : 264330568421

Option 4 ID : 264330568419

Status : Answered

Chosen Option : 4

Q.22 रीमा, रेखा से  $\frac{5}{4}$  गुना तेज दौड़ती है। इसे देखते हुए रीमा एक मैत्रीपूर्ण रेस प्रतियोगिता में रेखा को 50 मीटर की बढ़त देती है। प्रारंभिक बिंदु से उस स्थान की दूरी ज्ञात कीजिए जहां रीमा और रेखा दोनों मिलेंगी?

- Ans
- 1. 225 m
  - 2. 240 m
  - 3. 250 m
  - 4. 200 m

Question ID : 264330145027

Option 1 ID : 264330568364

Option 2 ID : 264330568366

Option 3 ID : 264330568363

Option 4 ID : 264330568365

Status : Answered

Chosen Option : 3

Q.23 यदि  $\cos A = \frac{15}{17}$ ,  $0 \leq A \leq 90^\circ$  है, तो  $\cot(90^\circ - A)$  का मान क्या होगा?

- Ans
- 1.  $\frac{7}{15}$
  - 2.  $\frac{\sqrt{2}}{15}$
  - 3.  $\frac{8}{15}$
  - 4.  $\frac{2\sqrt{2}}{15}$

Question ID : 264330157751

Option 1 ID : 264330618363

Option 2 ID : 264330618365

Option 3 ID : 264330618364

Option 4 ID : 264330618366

Status : Answered

Chosen Option : 4

Q.24 7 cm आधार त्रिज्या और 10 cm तिर्यक ऊंचाई वाले शंकु का वक्र पृष्ठीय क्षेत्रफल ज्ञाता कीजिए।

- Ans
- 1.  $300 \text{ cm}^2$
  - 2.  $280 \text{ cm}^2$
  - 3.  $250 \text{ cm}^2$
  - 4.  $220 \text{ cm}^2$

Question ID : 264330103753

Option 1 ID : 264330407320

Option 2 ID : 264330407319

Option 3 ID : 264330407318

Option 4 ID : 264330407317

Status : Answered

Chosen Option : 4

Q.25 6 cm और 4 cm त्रिज्याओं वाले दो वृत्तों के बीच की अनुप्रस्थ उभयनिष्ठ स्पर्शिका (transverse common tangent) की लंबाई (cm में) ज्ञात करें, जबकि उनके केंद्रों के बीच की दूरी 14 cm दी गई है।

- Ans
- 1.  $2\sqrt{6}$
  - 2.  $5\sqrt{6}$
  - 3.  $4\sqrt{6}$
  - 4.  $3\sqrt{6}$

Question ID : 264330163486

Option 1 ID : 264330641203

Option 2 ID : 264330641206

Option 3 ID : 264330641205

Option 4 ID : 264330641204

Status : Answered

Chosen Option : 3

Q.26 एक छात्रावास के मेस में एक सप्ताह के लिए 217 अंडों की आवश्यकता होती है। जुलाई, अगस्त और सितंबर के महीनों के लिए मेस में कुल कितने अंडों की आवश्यकता होगी?

- Ans
- 1. 2790
  - 2. 2821
  - 3. 2852
  - 4. 2883

Question ID : 264330103974

Option 1 ID : 264330408199

Option 2 ID : 264330408197

Option 3 ID : 264330408198

Option 4 ID : 264330408200

Status : Answered

Chosen Option : 2

Q.27 4 cm व्यास वाले एक अर्धगोले के संपूर्ण पृष्ठीय क्षेत्रफल और वक्र पृष्ठीय क्षेत्रफल का अंतर ज्ञात करें।

- Ans
- 1.  $4.4\pi \text{ cm}^2$
  - 2.  $4\pi \text{ cm}^2$
  - 3.  $5\pi \text{ cm}^2$
  - 4.  $8\pi \text{ cm}^2$

Question ID : 264330104374

Option 1 ID : 264330409799

Option 2 ID : 264330409797

Option 3 ID : 264330409800

Option 4 ID : 264330409798

Status : Answered

Chosen Option : 2

Q.28 एक दुकानदार को ₹55 प्रति kg और ₹70 प्रति kg मूल्य वाले दो प्रकार के चावल को किस अनुपात में मिलाना चाहिए, ताकि मिश्रण की औसत लागत ₹65 प्रति kg हो?

- Ans
- 1. 2 : 3
  - 2. 1 : 2
  - 3. 1 : 3
  - 4. 3 : 2

Question ID : 264330105977

Option 1 ID : 264330416209

Option 2 ID : 264330416212

Option 3 ID : 264330416211

Option 4 ID : 264330416210

Status : Answered

Chosen Option : 2

Q.29 नीचे दी गई तालिका 4 दुकानदारों A, B, C और D द्वारा चार अलग-अलग दिनों में बेचे गए उत्पादों की संख्या दर्शाती है।

दिन/व्यक्ति	A	B	C	D
सोमवार	1000	800	-	750
मंगलवार	500	-	900	650
बुधवार	800	1000	700	-
गुरुवार	-	1200	800	900

यदि सभी चार दिनों को मिलाकर A और B द्वारा बेचे गए कुल उत्पाद क्रमशः 3000 और 3500 हैं, तो मंगलवार को B द्वारा बेचे गए उत्पाद गुरुवार को A द्वारा बेचे गए उत्पादों से कितने अधिक या कम हैं?

- Ans
- 1. 200 अधिक
  - 2. 200 कम
  - 3. 300 कम
  - 4. 300 अधिक

Question ID : 264330167246

Option 1 ID : 264330655980

Option 2 ID : 264330655979

Option 3 ID : 264330655981

Option 4 ID : 264330655982

Status : Not Answered

Chosen Option : --

Q.30 दी गई तालिका का अध्ययन कीजिए और नीचे दिए गए प्रश्न का उत्तर दीजिए।

तालिका 4 अलग-अलग महीनों में चार अलग-अलग बेकरियों द्वारा बेचे गए केक की संख्या दर्शाती है।

बेकरी \ महीना	अगस्त	सितंबर	अक्टूबर	नवंबर
P	250	241	213	168
Q	175	189	201	122
R	164	145	129	168
S	224	154	184	209

सितंबर में बेकरी Q और S द्वारा एकसाथ मिलाकर बेचे गए केक की कुल संख्या और नवंबर में बेकरी P और R द्वारा एकसाथ मिलाकर बेचे गए केक की कुल संख्या के बीच कितना अंतर है?

- Ans  1.7  
 2.9  
 3.8  
 4.10

Question ID : 264330158259

Option 1 ID : 264330620398

Option 2 ID : 264330620396

Option 3 ID : 264330620397

Option 4 ID : 264330620395

Status : Answered

Chosen Option : 1

Q.31 यदि  $\cot \theta = \frac{4}{3}$ ,  $0 < \theta < \frac{\pi}{2}$ , और  $5p \cos^2 \theta \sin \theta = \cot^2 \theta$ , तो p का मान क्या होगा:

- Ans  1.  $\frac{7}{27}$   
 2.  $\frac{5}{27}$   
 3.  $\frac{125}{27}$   
 4.  $\frac{25}{27}$

Question ID : 264330145122

Option 1 ID : 264330568746

Option 2 ID : 264330568744

Option 3 ID : 264330568745

Option 4 ID : 264330568743

Status : Answered

Chosen Option : 4

Q.32 एक ग्रामीण चुनाव में, शारुक को कुल वैध मतों के 80% मत प्राप्त हुए। 10% मत अमान्य थे। यदि मतों की कुल संख्या 4500 थी, तो दूसरे उम्मीदवार को प्राप्त वैध मतों की संख्या ज्ञात कीजिए।

Ans ✓ 1. 810

✗ 2. 450

✗ 3. 530

✗ 4. 620

Question ID : 264330145071

Option 1 ID : 264330568542

Option 2 ID : 264330568539

Option 3 ID : 264330568541

Option 4 ID : 264330568540

Status : Answered

Chosen Option : 1

Q.33 एक वृत्त के त्रिज्यखंड का परिमाण 24 cm और त्रिज्या 3 cm है। त्रिज्यखंड का क्षेत्रफल (cm<sup>2</sup> में) ज्ञात करें।

Ans ✓ 1. 27

✗ 2. 30

✗ 3. 24

✗ 4. 33

Question ID : 264330163482

Option 1 ID : 264330641188

Option 2 ID : 264330641189

Option 3 ID : 264330641187

Option 4 ID : 264330641190

Status : Answered

Chosen Option : 3

Q.34  $\frac{3}{2}$ ,  $\frac{81}{16}$  और  $\frac{9}{8}$  का लघुत्तम समापवर्त्य (LCM) ज्ञात करें।

Ans ✗ 1.  $\frac{91}{2}$

✗ 2.  $\frac{101}{2}$

✓ 3.  $\frac{81}{2}$

✗ 4.  $\frac{111}{2}$

Question ID : 26433080080

Option 1 ID : 264330314269

Option 2 ID : 264330314270

Option 3 ID : 264330314268

Option 4 ID : 264330314271

Status : Answered

Chosen Option : 3



Q.35 जॉन अकेले किसी कार्य को 20 दिनों में कर सकता है, जबकि रवि अकेले उसी कार्य को 28 दिनों में कर सकता है। यदि वे एक साथ कार्य करते हैं, तो दोनों मिलकर उस कार्य को कितने दिनों में पूरा कर सकते हैं?

Ans

✗ 1.  $12\frac{1}{3}$

✓ 2.  $11\frac{2}{3}$

✗ 3.  $11\frac{1}{3}$

✗ 4.  $12\frac{2}{3}$

Question ID : 264330103284

Option 1 ID : 264330405443

Option 2 ID : 264330405441

Option 3 ID : 264330405442

Option 4 ID : 264330405444

Status : Answered

Chosen Option : 2

Q.36 यदि  $\frac{A}{L} + \frac{M}{B} = 1$  और  $\frac{B}{M} + \frac{N}{C} = 1$  है, तो  $\frac{L}{A} + \frac{C}{N}$  का मान क्या होगा?

Ans

✗ 1.  $\frac{B}{M}$

✗ 2. 0

✓ 3. 1

✗ 4.  $\frac{M}{B}$

Question ID : 264330157777

Option 1 ID : 264330618470

Option 2 ID : 264330618468

Option 3 ID : 264330618467

Option 4 ID : 264330618469

Status : Answered

Chosen Option : 2

Q.37 एक बैंक से ₹1,00,000 की राशि 7% वार्षिक चक्रवृद्धि ब्याज की दर से 5 वर्ष के लिए उधार ली गई, जहां ब्याज की गणना वार्षिक चक्रवृद्धि आधार पर की जाती है। चक्रवृद्धि ब्याज की गणना कीजिये।

Ans

✗ 1. ₹40,000

✗ 2. ₹20,963

✗ 3. ₹40,567

✓ 4. ₹40,255

Question ID : 264330145083

Option 1 ID : 264330568587

Option 2 ID : 264330568590

Option 3 ID : 264330568589

Option 4 ID : 264330568588

Status : Answered

Chosen Option : 3

Q.38 यदि अंकित मूल्य, क्रय मूल्य से 75% अधिक है, और अंकित मूल्य पर 40% की छूट दी जाती है, तो प्रतिशत लाभ ज्ञात करें।

- Ans
- ✓ 1. 5%
  - ✗ 2. 8%
  - ✗ 3. 7%
  - ✗ 4. 6%

Question ID : 264330104505

Option 1 ID : 264330410323

Option 2 ID : 264330410322

Option 3 ID : 264330410321

Option 4 ID : 264330410324

Status : Answered

Chosen Option : 1

Q.39 ₹25 प्रति  $m^2$  की दर से एक 30 m ऊंचे ठोस लंब-वृत्तीय बेलन के संपूर्ण पृष्ठीय क्षेत्रफल को पेंट करने की लागत ₹18,425 है। इस बेलन का आयतन ( $m^3$  में) क्या होगा [ $\pi = \frac{22}{7}$  का प्रयोग करें]?

- Ans
- ✗ 1. 1145
  - ✓ 2. 1155
  - ✗ 3. 1210
  - ✗ 4. 1122

Question ID : 264330122876

Option 1 ID : 264330481571

Option 2 ID : 264330481573

Option 3 ID : 264330481574

Option 4 ID : 264330481572

Status : Not Answered

Chosen Option : --

Q.40  $(1 + \sin^4 A - \cos^4 A) \operatorname{cosec}^2 A$  का मान क्या होगा?

- Ans
- ✗ 1. 1
  - ✗ 2. -2
  - ✓ 3. 2
  - ✗ 4. -1

Question ID : 264330157758

Option 1 ID : 264330618391

Option 2 ID : 264330618394

Option 3 ID : 264330618393

Option 4 ID : 264330618392

Status : Answered

Chosen Option : 3

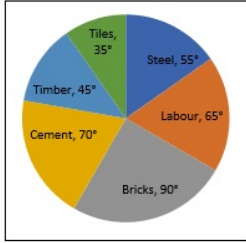
Q.41 210, 336 और 504 का लघुत्तम समापवर्त्य क्या है?

- Ans  1. 4560  
 2. 3360  
 3. 5040  
 4. 2100

Question ID : 26433066160  
Option 1 ID : 264330259175  
Option 2 ID : 264330259172  
Option 3 ID : 264330259173  
Option 4 ID : 264330259174  
Status : Answered  
Chosen Option : 3

Q.42 दिए गए पाई-चार्ट का अध्ययन कीजिए और निम्नलिखित प्रश्न का उत्तर दीजिए।

पाई-चार्ट, एक कस्बे में एक फ्लैट के निर्माण के लिए विभिन्न मदों पर ₹3,00,00,000 के कुल व्यय को दर्शाता है।



Steel = स्टील ,Labour = श्रम ,Bricks = ईंटें ,Cement = सीमेंट ,Timber = इमारती लकड़ी ,Tiles = टाइल्स

श्रम और इमारती लकड़ी पर कुल व्यय का प्रतिशत ज्ञात कीजिए।

- Ans  1.  $30\frac{1}{3}\%$   
 2.  $30\frac{5}{9}\%$   
 3.  $30\frac{1}{9}\%$   
 4.  $30\frac{7}{9}\%$

Question ID : 264330158282  
Option 1 ID : 264330620490  
Option 2 ID : 264330620488  
Option 3 ID : 264330620487  
Option 4 ID : 264330620489  
Status : Not Answered  
Chosen Option : --

Q.43

$6.9 - [8.6 - \{6.5 - (5.4 - \overline{4.3 - 2})\}]$  का मान ज्ञात कीजिए।

- Ans
- 1. 1.6
  - 2. 1.8
  - 3. 1.9
  - 4. 1.7

Question ID : 26433063983

Option 1 ID : 264330250525

Option 2 ID : 264330250526

Option 3 ID : 264330250527

Option 4 ID : 264330250524

Status : Not Answered

Chosen Option : --

Q.44

एक वृत्त के त्रिज्यखंड का केंद्रीय कोण  $45^\circ$  और एक की लंबाई 22 cm है। वृत्त की त्रिज्या ज्ञात कीजिए। ( $\pi = \frac{22}{7}$  का उपयोग करें।)

- Ans
- 1. 32 cm
  - 2. 35 cm
  - 3. 36 cm
  - 4. 28 cm

Question ID : 264330163481

Option 1 ID : 264330641185

Option 2 ID : 264330641183

Option 3 ID : 264330641186

Option 4 ID : 264330641184

Status : Not Answered

Chosen Option : --

Q.45

एक कूरियर शॉप पर, 8 पार्सलों का वजन 1.5 kg, 1.25 kg, 1.35 kg, 750 gm, 950 gm, 0.7 kg, 0.4 kg और 0.5 kg पाया गया। उनका औसत वजन ज्ञात कीजिए।

- Ans
- 1. 875gm
  - 2. 925gm
  - 3. 900gm
  - 4. 700gm

Question ID : 264330109236

Option 1 ID : 264330429221

Option 2 ID : 264330429224

Option 3 ID : 264330429223

Option 4 ID : 264330429222

Status : Answered

Chosen Option : 1

Q.46 एक शंकाकार बर्तन की त्रिज्या 21 cm और तिर्यक ऊंचाई 25 cm है। यदि बर्तन के वक्रिय भाग को सफेद रंग से पेंट किया जाना है, तो ₹1.5 प्रति  $\text{cm}^2$  की दर से पेंटिंग की लागत (₹ में) ज्ञात कीजिए।

Ans  1. 1250

2. 2475

3. 1650

4. 825

Question ID : 264330145104

Option 1 ID : 264330568673

Option 2 ID : 264330568674

Option 3 ID : 264330568671

Option 4 ID : 264330568672

Status : Not Answered

Chosen Option : --

Q.47 यदि साधारण वार्षिक ब्याज देने वाले किसी बैंक खाते में ₹80 की राशि 2 वर्षों में ₹96 हो जाती है, तो उसी खाते में ₹62,000 की राशि 5 वर्ष बाद \_\_\_\_\_ हो जाएगी।

Ans  1. ₹93,000

2. ₹82,400

3. ₹84,600

4. ₹88,200

Question ID : 264330117926

Option 1 ID : 264330463521

Option 2 ID : 264330463519

Option 3 ID : 264330463520

Option 4 ID : 264330463522

Status : Answered

Chosen Option : 1

Q.48 यदि किसी वस्तु के 10% लाभ पर और 7% लाभ पर विक्रय मूल्यों के बीच का अंतर ₹6 है, तो वस्तु का क्रय मूल्य (₹में) क्या है?

Ans  1. 150

2. 100

3. 175

4. 200

Question ID : 264330102344

Option 1 ID : 264330401842

Option 2 ID : 264330401841

Option 3 ID : 264330401843

Option 4 ID : 264330401844

Status : Answered

Chosen Option : 4

Q.49 स्वास्तिक अपनी आय का 20% बचाता है, जबकि शेष राशि भोजन, किराए, शिक्षा और खरीदारी पर खर्च करता है। आय का 15% भोजन पर खर्च किया जाता है, जबकि ₹12,800 किराए पर, ₹32,000 शिक्षा पर और ₹7,200 खरीदारी पर खर्च किए जाते हैं। खरीदारी पर खर्च की गई राशि, कुल खर्च की 11.25% है। भोजन पर कितना धन (₹में) खर्च किया जाता है?

- Ans
- 1. 10800
  - 2. 12000
  - 3. 9600
  - 4. 15000

Question ID : 264330103315  
Option 1 ID : 264330405568  
Option 2 ID : 264330405565  
Option 3 ID : 264330405567  
Option 4 ID : 264330405566  
Status : Not Answered  
Chosen Option : --

Q.50 दी गई तालिका का अध्ययन कीजिए, और नीचे दिए गए प्रश्न का उत्तर दीजिए।  
दी गई तालिका एक कंपनी द्वारा वर्ष 1989 से 1994 तक पाँच प्रकार की कारों P, Q, R, S और T के उत्पादन को दर्शाती है।

कार के प्रकार	1989	1990	1991	1992	1993	1994	कुल
P	8	20	16	17	21	6	88
Q	16	10	14	12	12	14	78
R	21	17	16	15	13	8	90
S	4	6	10	16	20	31	87
T	25	18	19	30	14	27	133
कुल	74	71	75	90	80	86	476

1989-94 की अवधि के दौरान, किस प्रकार की कार के उत्पादन में लगातार कमी हुई है?

- Ans
- 1. S
  - 2. T
  - 3. R
  - 4. Q

Question ID : 264330165466  
Option 1 ID : 264330648945  
Option 2 ID : 264330648946  
Option 3 ID : 264330648944  
Option 4 ID : 264330648943  
Status : Answered  
Chosen Option : 3

Section : English Comprehension

**Q.1** Select the most appropriate option to substitute the underlined segment in the given sentence.

Any sort of unfair conduct is not tolerated in international sports tournaments as it can completely ruin an athlete's career.

- Ans**
- 1. straw in the eye
  - 2. hand in the mud
  - 3. red handed
  - 4. foul play

Question ID : 26433092923  
Option 1 ID : 264330364961  
Option 2 ID : 264330364963  
Option 3 ID : 264330364962  
Option 4 ID : 264330364964  
Status : Answered  
Chosen Option : 4

**Q.2** Select the most appropriate ANTONYM of the given word.  
Placid

- Ans**
- 1. Pristine
  - 2. Turbulent
  - 3. Pensive
  - 4. Destined

Question ID : 26433097020  
Option 1 ID : 264330380813  
Option 2 ID : 264330380815  
Option 3 ID : 264330380816  
Option 4 ID : 264330380814  
Status : Answered  
Chosen Option : 2

**Q.3** Select the option that can be used as a one-word substitute for the given group of words.

A person who believes that God does not exist

- Ans**
- 1. Hedonistic
  - 2. Fanatic
  - 3. Epicurean
  - 4. Atheist

Question ID : 26433088195  
Option 1 ID : 264330346373  
Option 2 ID : 264330346374  
Option 3 ID : 264330346376  
Option 4 ID : 264330346375  
Status : Answered  
Chosen Option : 4

**Q.4** Select the correct idiom that can substitute the italicised group of words in the given sentence.

He really stinks and *smells foul* after a hard session at the gym.

- Ans
- 1. an iron will
  - 2. pen and ink
  - 3. lame excuse
  - 4. an old flame

Question ID : 26433094782  
Option 1 ID : 264330371955  
Option 2 ID : 264330371956  
Option 3 ID : 264330371954  
Option 4 ID : 264330371953  
Status : Answered  
Chosen Option : 3

**Q.5** Select the most appropriate option that can substitute the underlined segment in the given sentence. If there is no need to substitute it, select 'No substitution required'.  
The Taj Mahal is one of the much popular seven wonders of the world.

- Ans
- 1. No substitution required
  - 2. more
  - 3. much more
  - 4. most

Question ID : 26433070768  
Option 1 ID : 264330277531  
Option 2 ID : 264330277529  
Option 3 ID : 264330277528  
Option 4 ID : 264330277530  
Status : Answered  
Chosen Option : 4

**Q.6** Select the correct option to substitute the underlined segment in the given sentence. If no substitution is required, select 'No substitution'.

He is faster than smarter.

- Ans
- 1. faster than being smart
  - 2. more fast than smart
  - 3. fast than smart
  - 4. No substitution

Question ID : 26433090823  
Option 1 ID : 264330356714  
Option 2 ID : 264330356713  
Option 3 ID : 264330356715  
Option 4 ID : 264330356716  
Status : Answered  
Chosen Option : 2



Q.7 Select the most appropriate ANTONYM of the given word.

Rejoinder

- Ans  1. Expedite  
 2. Request  
 3. Ordinary  
 4. Reply

Question ID : 264330163379  
Option 1 ID : 264330640806  
Option 2 ID : 264330640805  
Option 3 ID : 264330640804  
Option 4 ID : 264330640803  
Status : Answered  
Chosen Option : 4

Q.8 Select the most appropriate option that can substitute the underlined segment in the given sentence.

Payal's father was seen desperately searching for the medicine that can counteract the effect of a venomous snakebite in Parul's left hand.

- Ans  1. remedy  
 2. antiseptic  
 3. anti-serum  
 4. antidote

Question ID : 26433070594  
Option 1 ID : 264330276843  
Option 2 ID : 264330276840  
Option 3 ID : 264330276842  
Option 4 ID : 264330276841  
Status : Answered  
Chosen Option : 4

Q.9 Select the option that can be used as a one-word substitute for the given group of words.

The capacity for being useful for some purpose.

- Ans  1. Gain  
 2. Utility  
 3. Desirability  
 4. Aid

Question ID : 26433090451  
Option 1 ID : 264330355265  
Option 2 ID : 264330355266  
Option 3 ID : 264330355268  
Option 4 ID : 264330355267  
Status : Answered  
Chosen Option : 2

**Q.10** Parts of the following sentence have been given as options. Select the option that contains an error.

Raman ate the cake and exclaimed that it tasted sweetly.

- Ans
- 1. and exclaimed that
  - 2. the cake
  - 3. Raman ate
  - 4. it tasted sweetly

Question ID : 264330134121  
Option 1 ID : 264330525509  
Option 2 ID : 264330525508  
Option 3 ID : 264330525507  
Option 4 ID : 264330525510  
Status : Answered  
Chosen Option : 4

**Q.11** Choose the correct spelling of the underlined word in the given sentence.  
He has won the medal for the twelfth time.

- Ans
- 1. Twelfth
  - 2. Twelth
  - 3. Twwelfth
  - 4. Twellth

Question ID : 264330117377  
Option 1 ID : 264330461550  
Option 2 ID : 264330461552  
Option 3 ID : 264330461551  
Option 4 ID : 264330461549  
Status : Answered  
Chosen Option : 1

**Q.12** Identify the sentence that correctly uses the indefinite article.

- Ans
- 1. There are three cars parked outside: an Mercedes, a Jaguar and a Fiat.
  - 2. There are three cars parked outside: a Mercedes, an Jaguar and a Fiat.
  - 3. There are three cars parked outside: a Mercedes, a Jaguar and a Fiat.
  - 4. There are three cars parked outside: a Mercedes, an Jaguar and an Fiat.

Question ID : 26433059561  
Option 1 ID : 264330233093  
Option 2 ID : 264330233094  
Option 3 ID : 264330233092  
Option 4 ID : 264330233095  
Status : Answered  
Chosen Option : 3

**Q.13** Select the INCORRECTLY spelt word.

- Ans
- 1. Zenith
  - 2. Merriment
  - 3. Yearn
  - 4. Miniture

Question ID : 26433091838  
Option 1 ID : 264330360691  
Option 2 ID : 264330360690  
Option 3 ID : 264330360692  
Option 4 ID : 264330360689  
Status : Answered  
Chosen Option : 2

**Q.14** Select the most appropriate idiom to fill in the blank.  
Choosing not to pursue a degree in computer engineering was \_\_\_\_\_, as the market for them is extremely limited nowadays.

- Ans
- 1. a cut above
  - 2. a blessing in disguise
  - 3. airy fairy
  - 4. an elevator pitch

Question ID : 264330134219  
Option 1 ID : 264330525873  
Option 2 ID : 264330525872  
Option 3 ID : 264330525871  
Option 4 ID : 264330525874  
Status : Answered  
Chosen Option : 2

**Q.15** Select the option that can be used as a one-word substitute for the given group of words.

One who settles in another country

- Ans
- 1. Refugee
  - 2. Traveller
  - 3. Immigrant
  - 4. Resident

Question ID : 26433088532  
Option 1 ID : 264330347702  
Option 2 ID : 264330347703  
Option 3 ID : 264330347701  
Option 4 ID : 264330347704  
Status : Answered  
Chosen Option : 3

**Q.16** Select the most appropriate ANTONYM of the given word.  
Asset

- Ans
- 1. Liability
  - 2. Mole
  - 3. Refuge
  - 4. Wealth

Question ID : 264330167909  
Option 1 ID : 264330658558  
Option 2 ID : 264330658555  
Option 3 ID : 264330658556  
Option 4 ID : 264330658557  
Status : Answered  
Chosen Option : 3

Q.17 Select the most appropriate ANTONYM of the given word.

Leniency

- Ans  1. Sternness  
 2. Favour  
 3. Discard  
 4. Penalty

Question ID : 264330163374  
Option 1 ID : 264330640785  
Option 2 ID : 264330640783  
Option 3 ID : 264330640784  
Option 4 ID : 264330640786  
Status : Answered  
Chosen Option : 1

Q.18 Select the option that can be used as a one-word substitute for the given group of words.

A keeper or custodian of a museum or other collection

- Ans  1. Curator  
 2. Calligrapher  
 3. Chauffeur  
 4. Cartographer

Question ID : 264330164300  
Option 1 ID : 264330644417  
Option 2 ID : 264330644418  
Option 3 ID : 264330644416  
Option 4 ID : 264330644415  
Status : Answered  
Chosen Option : 1

Q.19 Select the most appropriate ANTONYM of the given word.

Apathy

- Ans  1. Interest  
 2. Interruption  
 3. Ignorance  
 4. Sincerity

Question ID : 26433099134  
Option 1 ID : 264330389150  
Option 2 ID : 264330389149  
Option 3 ID : 264330389152  
Option 4 ID : 264330389151  
Status : Answered  
Chosen Option : 1

**Q.20** Select the correct idiom to replace the underlined segment in the given sentence.

We should ask Emily to join our team. She is as keen as butter.

- Ans
- 1. as keen as a bee
  - 2. as keen as mustard
  - 3. as keen as sugar
  - 4. as keen as salt

Question ID : 26433092313  
Option 1 ID : 264330362550  
Option 2 ID : 264330362551  
Option 3 ID : 264330362552  
Option 4 ID : 264330362549  
Status : Answered  
Chosen Option : 1

**Q.21** Select the most appropriate synonym of the word 'viable' in the given sentence and choose the correct option.

The engineer's design was optimised for efficiency and scalability, with a focus on sustainability.

- Ans
- 1. Scalability
  - 2. Efficiency
  - 3. Sustainability
  - 4. Optimised

Question ID : 264330163534  
Option 1 ID : 264330641393  
Option 2 ID : 264330641392  
Option 3 ID : 264330641394  
Option 4 ID : 264330641391  
Status : Answered  
Chosen Option : 3

**Q.22** Select the most appropriate idiom to fill in the blank.

All my efforts went in vain. The project on which I was working for the last two months has failed and we are \_\_\_\_\_.

- Ans
- 1. back to square one
  - 2. around the bend
  - 3. on the fly
  - 4. all in the seventh heaven

Question ID : 264330134221  
Option 1 ID : 264330525879  
Option 2 ID : 264330525882  
Option 3 ID : 264330525881  
Option 4 ID : 264330525880  
Status : Answered  
Chosen Option : 1

**Q.23** Select the most appropriate meaning of the given idiom.

**Crack someone up**

- Ans**  1. To make someone laugh  
 2. To criticise someone  
 3. To make someone angry  
 4. To force someone to commit a mistake

Question ID : 264330163404

Option 1 ID : 264330640897

Option 2 ID : 264330640896

Option 3 ID : 264330640895

Option 4 ID : 264330640898

Status : Answered

Chosen Option : 2

**Q.24** Choose the most suitable idiom for the given situation.

Ravi has a strong desire to be in college hockey team this year and he is working hard to gain such skills to fulfill his goal of life. He has clearly made up his mind to achieve his target.

- Ans**  1. To rise to the occasion  
 2. Set sights on  
 3. To move the goal posts  
 4. To make the cut

Question ID : 264330137462

Option 1 ID : 264330538474

Option 2 ID : 264330538473

Option 3 ID : 264330538471

Option 4 ID : 264330538472

Status : Answered

Chosen Option : 2

**Q.25** Select the correct idiom to substitute the underlined word segment in the following sentence.

She trusted her husband but he stabbed her in the neck when he usurped her inheritance.

- Ans**  1. stabbed her in the back  
 2. snapped her in the neck  
 3. stabbed her with a fork  
 4. stabbed her prospects

Question ID : 264330101448

Option 1 ID : 264330398303

Option 2 ID : 264330398304

Option 3 ID : 264330398301

Option 4 ID : 264330398302

Status : Answered

Chosen Option : 1

**Q.26** Select the sentence that has a spelling error.

- A- The art of living is learnt easily by those who are positive and optimistic.
- B- We can learn a lot about the art of living by having a peep into the lives of great men.
- C- The daily routines of these great men dissiminate that they are different.
- D- Their unique lifestyles help us learn certain habits and practices that they followed.

- Ans
- 1. The art of living is learnt easily by those who are positive and optimistic.
  - 2. The daily routines of these great men dissiminate that they are different.
  - 3. Their unique lifestyles help us learn certain habits and practices that they followed.
  - 4. We can learn a lot about the art of living by having a peep into the lives of great men.

Question ID : 264330141561  
Option 1 ID : 264330554579  
Option 2 ID : 264330554581  
Option 3 ID : 264330554582  
Option 4 ID : 264330554580  
Status : Answered  
Chosen Option : 2

**Q.27** Select the most appropriate ANTONYM of the given word.  
Denounce

- Ans
- 1. Dainty
  - 2. Praise
  - 3. Relieve
  - 4. Criticise

Question ID : 264330165246  
Option 1 ID : 264330648086  
Option 2 ID : 264330648084  
Option 3 ID : 264330648085  
Option 4 ID : 264330648083  
Status : Answered  
Chosen Option : 2

**Q.28** Parts of the following sentence have been given as options. One of them may contain an error. Select the part that contains the error from the given options. If you don't find any error, mark 'No error' as your answer.

You arrived two days ago. By the time you leave, you will have spent nine days here.

- Ans
- 1. you will have spent nine days here
  - 2. You arrived two days ago
  - 3. By the time you leave
  - 4. No error

Question ID : 26433090496  
Option 1 ID : 264330355435  
Option 2 ID : 264330355433  
Option 3 ID : 264330355434  
Option 4 ID : 264330355436  
Status : Answered  
Chosen Option : 1

**Q.29** You are preparing a speech for an upcoming function. Select a synonym for the highlighted word to make it better.

Effective public transportation networks may greatly alleviate traffic congestion and enhance inhabitants' quality of life in general.

- Ans
- 1. Amplification
  - 2. Diversion
  - 3. Laxity
  - 4. Gridlock

Question ID : 264330121904  
Option 1 ID : 264330477774  
Option 2 ID : 264330477772  
Option 3 ID : 264330477773  
Option 4 ID : 264330477771  
Status : Answered  
Chosen Option : 4

**Q.30** Select the INCORRECTLY spelt word from the given sentence.  
Gandhiji considered untouchability to be one of India's major social ills.

- Ans
- 1. major
  - 2. considared
  - 3. untouchability
  - 4. social

Question ID : 264330164526  
Option 1 ID : 264330645297  
Option 2 ID : 264330645295  
Option 3 ID : 264330645296  
Option 4 ID : 264330645298  
Status : Answered  
Chosen Option : 2

**Q.31** Select the most appropriate ANTONYM of the word 'discordant' in the given sentence and choose the correct option.

The sweet melodious symphony of the piano filled the room, transporting the listeners to a world of beauty and emotion.

- Ans
- 1. Transporting
  - 2. Melodious
  - 3. Filled
  - 4. Emotion

Question ID : 264330163538  
Option 1 ID : 264330641409  
Option 2 ID : 264330641407  
Option 3 ID : 264330641408  
Option 4 ID : 264330641410  
Status : Answered  
Chosen Option : 2



**Q.32** The following sentence has been divided into parts. One of them may contain an error. Select the part that contains the error from the given options. If you don't find any error, mark 'No error' as your answer.  
I wanted to buy a candle holder, / but the store didn't have one. / So, I got a cake.

- Ans
- 1. I wanted to buy a candle holder
  - 2. but the store didn't have one
  - 3. No error
  - 4. So, I got a cake

Question ID : 26433059551  
Option 1 ID : 264330233052  
Option 2 ID : 264330233053  
Option 3 ID : 264330233055  
Option 4 ID : 264330233054  
Status : Answered  
Chosen Option : 2

**Q.33** Select the most appropriate idiom to fill in the blank.

I think we should \_\_\_\_\_ before buying this car.

- Ans
- 1. stop to change horses
  - 2. eat like a horse
  - 3. hold our horses
  - 4. get off our high horse

Question ID : 264330163337  
Option 1 ID : 264330640648  
Option 2 ID : 264330640647  
Option 3 ID : 264330640650  
Option 4 ID : 264330640649  
Status : Answered  
Chosen Option : 3

**Q.34** Select the option that can be used as a one-word substitute for the given group of words.

Happening repeatedly

- Ans
- 1. Rapport
  - 2. Recurrent
  - 3. Recuperate
  - 4. Regression

Question ID : 26433073674  
Option 1 ID : 264330288839  
Option 2 ID : 264330288836  
Option 3 ID : 264330288837  
Option 4 ID : 264330288838  
Status : Answered  
Chosen Option : 2

**Q.35** Select the option that can be used as a one-word substitute for the given group of words.

**The study of the human mind**

- Ans**
- 1. Microbiology
  - 2. Anthropology
  - 3. Psychology
  - 4. Epidemiology

Question ID : 26433088754  
Option 1 ID : 264330348571  
Option 2 ID : 264330348569  
Option 3 ID : 264330348572  
Option 4 ID : 264330348570  
Status : Answered  
Chosen Option : 3

**Q.36** Select the most appropriate synonym of the given word.  
**Captivate**

- Ans**
- 1. Arrest
  - 2. Study
  - 3. Allure
  - 4. Envelope

Question ID : 264330102432  
Option 1 ID : 264330402173  
Option 2 ID : 264330402176  
Option 3 ID : 264330402174  
Option 4 ID : 264330402175  
Status : Answered  
Chosen Option : 1

**Q.37** Select the option that can be used as a one-word substitute for the given group of words.

**Study of science of insects**

- Ans**
- 1. Entomology
  - 2. Anthropology
  - 3. Microbiology
  - 4. Ecology

Question ID : 26433088991  
Option 1 ID : 264330349501  
Option 2 ID : 264330349502  
Option 3 ID : 264330349504  
Option 4 ID : 264330349503  
Status : Answered  
Chosen Option : 1

**Q.38 Select the INCORRECTLY spelt word.**

- Ans  1. Noodle  
 2. Pizta  
 3. Pasta  
 4. Bread

Question ID : 26433089012  
Option 1 ID : 264330349585  
Option 2 ID : 264330349587  
Option 3 ID : 264330349586  
Option 4 ID : 264330349588  
Status : Answered  
Chosen Option : 2

**Q.39 The following sentence has been split into four segments. Identify the segment that contains a grammatical error.**

**A Prime Minister of India / will address / the nation today / on the occasion of Independence Day.**

- Ans  1. will address  
 2. the nation today  
 3. A Prime Minister of India  
 4. on the occasion of Independence Day

Question ID : 264330120604  
Option 1 ID : 264330472656  
Option 2 ID : 264330472657  
Option 3 ID : 264330472655  
Option 4 ID : 264330472658  
Status : Answered  
Chosen Option : 3

**Q.40 Select the most appropriate meaning of the given idiom.**

**What a small world!**

- Ans  1. What a beautiful place!  
 2. What a coincidence!  
 3. The world is great.  
 4. The world is a village.

Question ID : 26433099940  
Option 1 ID : 264330392336  
Option 2 ID : 264330392335  
Option 3 ID : 264330392334  
Option 4 ID : 264330392333  
Status : Answered  
Chosen Option : 2

**Comprehension:**

In the following passage, some words have been deleted. Read the passage carefully and select the most appropriate option to fill in each blank.

South Korea is the most cosmetically (1)\_\_\_\_\_ country on Earth. Beauty editors estimate that it is because of the government's heavy investment (2)\_\_\_\_\_ industry. It is ahead of its competitors, and its citizens (3)\_\_\_\_\_ twice as much on skincare products as consumers in the United States, the UK, and France. Korean shoppers are (4)\_\_\_\_\_ the world's most discerning. Eight out of 10 Korean women in their 20s and 30s use an app that (5)\_\_\_\_\_ like a cosmetics-specific, to debate the merits of various common ingredients.

**SubQuestion No : 41**

**Q.41 Select the most appropriate option to fill in blank number 1.**

- Ans  1. ancient  
 2. early  
 3. advanced  
 4. primitive

Question ID : 264330164225  
Option 1 ID : 264330644135  
Option 2 ID : 264330644138  
Option 3 ID : 264330644136  
Option 4 ID : 264330644137  
Status : Answered  
Chosen Option : 3

**Comprehension:**

In the following passage, some words have been deleted. Read the passage carefully and select the most appropriate option to fill in each blank.

South Korea is the most cosmetically (1)\_\_\_\_\_ country on Earth. Beauty editors estimate that it is because of the government's heavy investment (2)\_\_\_\_\_ industry. It is ahead of its competitors, and its citizens (3)\_\_\_\_\_ twice as much on skincare products as consumers in the United States, the UK, and France. Korean shoppers are (4)\_\_\_\_\_ the world's most discerning. Eight out of 10 Korean women in their 20s and 30s use an app that (5)\_\_\_\_\_ like a cosmetics-specific, to debate the merits of various common ingredients.

**SubQuestion No : 42**

**Q.42 Select the most appropriate option to fill in blank number 2.**

- Ans  1. in the  
 2. from the  
 3. of the  
 4. by the

Question ID : 264330164226  
Option 1 ID : 264330644141  
Option 2 ID : 264330644142  
Option 3 ID : 264330644139  
Option 4 ID : 264330644140  
Status : Answered  
Chosen Option : 1

**Comprehension:**

In the following passage, some words have been deleted. Read the passage carefully and select the most appropriate option to fill in each blank.

South Korea is the most cosmetically (1)\_\_\_\_\_ country on Earth. Beauty editors estimate that it is because of the government's heavy investment (2)\_\_\_\_\_ industry. It is ahead of its competitors, and its citizens (3)\_\_\_\_\_ twice as much on skincare products as consumers in the United States, the UK, and France. Korean shoppers are (4)\_\_\_\_\_ the world's most discerning. Eight out of 10 Korean women in their 20s and 30s use an app that (5)\_\_\_\_\_ like a cosmetics-specific, to debate the merits of various common ingredients.

**SubQuestion No : 43**

**Q.43 Select the most appropriate option to fill in blank number 3.**

- Ans**  1. spend  
 2. propagate  
 3. cherish  
 4. comply

Question ID : 264330164227  
Option 1 ID : 264330644146  
Option 2 ID : 264330644145  
Option 3 ID : 264330644144  
Option 4 ID : 264330644143  
Status : Answered  
Chosen Option : 1

**Comprehension:**

In the following passage, some words have been deleted. Read the passage carefully and select the most appropriate option to fill in each blank.

South Korea is the most cosmetically (1)\_\_\_\_\_ country on Earth. Beauty editors estimate that it is because of the government's heavy investment (2)\_\_\_\_\_ industry. It is ahead of its competitors, and its citizens (3)\_\_\_\_\_ twice as much on skincare products as consumers in the United States, the UK, and France. Korean shoppers are (4)\_\_\_\_\_ the world's most discerning. Eight out of 10 Korean women in their 20s and 30s use an app that (5)\_\_\_\_\_ like a cosmetics-specific, to debate the merits of various common ingredients.

**SubQuestion No : 44**

**Q.44 Select the most appropriate option to fill in blank number 4.**

- Ans**  1. though  
 2. perhaps  
 3. although  
 4. maybe

Question ID : 264330164228  
Option 1 ID : 264330644149  
Option 2 ID : 264330644147  
Option 3 ID : 264330644148  
Option 4 ID : 264330644150  
Status : Answered  
Chosen Option : 4

**Comprehension:**

In the following passage, some words have been deleted. Read the passage carefully and select the most appropriate option to fill in each blank.

South Korea is the most cosmetically (1)\_\_\_\_\_ country on Earth. Beauty editors estimate that it is because of the government's heavy investment (2)\_\_\_\_\_ industry. It is ahead of its competitors, and its citizens (3)\_\_\_\_\_ twice as much on skincare products as consumers in the United States, the UK, and France. Korean shoppers are (4)\_\_\_\_\_ the world's most discerning. Eight out of 10 Korean women in their 20s and 30s use an app that (5)\_\_\_\_\_ like a cosmetics-specific, to debate the merits of various common ingredients.

**SubQuestion No : 45**

**Q.45 Select the most appropriate option to fill in blank number 5.**

- Ans**  1. dissolves  
 2. functions  
 3. malfunctions  
 4. stops

Question ID : 264330164229

Option 1 ID : 264330644153

Option 2 ID : 264330644154

Option 3 ID : 264330644152

Option 4 ID : 264330644151

Status : Answered

Chosen Option : 2

KD JOB UPDATES

### Comprehension:

Read the given passage carefully and answer the questions that follow.

Throughout history, the intricacies of the human mind have been the subject of fascination and inquiry. From ancient philosophers to modern-day neuroscientists, the workings of the brain have been studied and analysed in an attempt to unravel its mysteries. However, despite centuries of research, much remains unknown about the complexities of human cognition and consciousness.

One of the most fascinating aspects of the human mind is its ability to create and imagine. The human mind has the capacity to conceptualise and bring into being ideas that were previously unknown or unimaginable, from artistic expression to scientific discovery. The process of creativity has captured the attention of scholars and laypeople alike and is both enigmatic and awe-inspiring.

There have been many theories proposed to explain the process of creativity. Some suggest that it is a purely subconscious process, while others argue that creativity is a result of conscious effort and intentional problem-solving. Still others suggest that creativity arises from a combination of conscious and subconscious processes.

Despite the ongoing debate over the nature of creativity, one thing is clear: it is a multifaceted and complex phenomenon. Creativity can manifest in a wide range of human activities, from the creation of art and literature to the development of scientific theories and inventions. It can occur in both individual and collective contexts and can be driven by a variety of factors such as curiosity, passion, or the desire for recognition.

Creativity also has the potential to bring about positive change in the world. Throughout history, creative individuals and groups have used their talents to address social, political, and environmental challenges, often inspiring others to take action and make a difference. From the abolitionist movement to the civil rights movement to the environmental movement, creativity has played a crucial role in promoting social justice and positive change.

Despite the many benefits of creativity, it is not without its challenges. The process of creative expression can be fraught with obstacles, from self-doubt and insecurity to external pressures and constraints. Moreover, not all creative ideas are successful or well-received, and many artists and innovators face rejection and criticism as they seek to bring their ideas to fruition.

Despite these challenges, however, the human drive to create and imagine persists. Individuals and groups continue to harness the power of creativity to make a difference in the world. From the humblest amateur artist to the most celebrated innovator, the human capacity for creativity remains one of our greatest strengths and sources of inspiration.

#### SubQuestion No : 46

**Q.46** Select an appropriate title for the passage.

- Ans
- 1. The Role of the Human Mind in Promoting Positive Change
  - 2. The Power of Creativity
  - 3. The History of the Human Mind
  - 4. The Complexities of Human Cognition

Question ID : 264330165133

Option 1 ID : 264330647641

Option 2 ID : 264330647640

Option 3 ID : 264330647639

Option 4 ID : 264330647642

Status : Answered

Chosen Option : 2

### Comprehension:

Read the given passage carefully and answer the questions that follow.

Throughout history, the intricacies of the human mind have been the subject of fascination and inquiry. From ancient philosophers to modern-day neuroscientists, the workings of the brain have been studied and analysed in an attempt to unravel its mysteries. However, despite centuries of research, much remains unknown about the complexities of human cognition and consciousness.

One of the most fascinating aspects of the human mind is its ability to create and imagine. The human mind has the capacity to conceptualise and bring into being ideas that were previously unknown or unimaginable, from artistic expression to scientific discovery. The process of creativity has captured the attention of scholars and laypeople alike and is both enigmatic and awe-inspiring.

There have been many theories proposed to explain the process of creativity. Some suggest that it is a purely subconscious process, while others argue that creativity is a result of conscious effort and intentional problem-solving. Still others suggest that creativity arises from a combination of conscious and subconscious processes.

Despite the ongoing debate over the nature of creativity, one thing is clear: it is a multifaceted and complex phenomenon. Creativity can manifest in a wide range of human activities, from the creation of art and literature to the development of scientific theories and inventions. It can occur in both individual and collective contexts and can be driven by a variety of factors such as curiosity, passion, or the desire for recognition.

Creativity also has the potential to bring about positive change in the world. Throughout history, creative individuals and groups have used their talents to address social, political, and environmental challenges, often inspiring others to take action and make a difference. From the abolitionist movement to the civil rights movement to the environmental movement, creativity has played a crucial role in promoting social justice and positive change.

Despite the many benefits of creativity, it is not without its challenges. The process of creative expression can be fraught with obstacles, from self-doubt and insecurity to external pressures and constraints. Moreover, not all creative ideas are successful or well-received, and many artists and innovators face rejection and criticism as they seek to bring their ideas to fruition.

Despite these challenges, however, the human drive to create and imagine persists. Individuals and groups continue to harness the power of creativity to make a difference in the world. From the humblest amateur artist to the most celebrated innovator, the human capacity for creativity remains one of our greatest strengths and sources of inspiration.

### SubQuestion No : 47

**Q.47** According to the passage, what is one of the challenges of creative expression?

- Ans
- 1. The overemphasis on conscious problem-solving.
  - 2. The lack of appreciation for creative ideas.
  - 3. The limited capacity of the human mind.
  - 4. The absence of external pressures and constraints.

Question ID : 264330165136

Option 1 ID : 264330647653

Option 2 ID : 264330647651

Option 3 ID : 264330647652

Option 4 ID : 264330647654

Status : Answered

Chosen Option : 2



### Comprehension:

Read the given passage carefully and answer the questions that follow.

Throughout history, the intricacies of the human mind have been the subject of fascination and inquiry. From ancient philosophers to modern-day neuroscientists, the workings of the brain have been studied and analysed in an attempt to unravel its mysteries. However, despite centuries of research, much remains unknown about the complexities of human cognition and consciousness.

One of the most fascinating aspects of the human mind is its ability to create and imagine. The human mind has the capacity to conceptualise and bring into being ideas that were previously unknown or unimaginable, from artistic expression to scientific discovery. The process of creativity has captured the attention of scholars and laypeople alike and is both enigmatic and awe-inspiring.

There have been many theories proposed to explain the process of creativity. Some suggest that it is a purely subconscious process, while others argue that creativity is a result of conscious effort and intentional problem-solving. Still others suggest that creativity arises from a combination of conscious and subconscious processes.

Despite the ongoing debate over the nature of creativity, one thing is clear: it is a multifaceted and complex phenomenon. Creativity can manifest in a wide range of human activities, from the creation of art and literature to the development of scientific theories and inventions. It can occur in both individual and collective contexts and can be driven by a variety of factors such as curiosity, passion, or the desire for recognition.

Creativity also has the potential to bring about positive change in the world. Throughout history, creative individuals and groups have used their talents to address social, political, and environmental challenges, often inspiring others to take action and make a difference. From the abolitionist movement to the civil rights movement to the environmental movement, creativity has played a crucial role in promoting social justice and positive change.

Despite the many benefits of creativity, it is not without its challenges. The process of creative expression can be fraught with obstacles, from self-doubt and insecurity to external pressures and constraints. Moreover, not all creative ideas are successful or well-received, and many artists and innovators face rejection and criticism as they seek to bring their ideas to fruition.

Despite these challenges, however, the human drive to create and imagine persists. Individuals and groups continue to harness the power of creativity to make a difference in the world. From the humblest amateur artist to the most celebrated innovator, the human capacity for creativity remains one of our greatest strengths and sources of inspiration.

#### SubQuestion No : 48

**Q.48** What is the main focus of the passage?

- Ans
- 1. The mysteries of the human mind.
  - 2. The nature of creativity, its benefits and challenges.
  - 3. The complexities and challenges of cognitive processes.
  - 4. The nature of fancy and imagination.

Question ID : 264330165134

Option 1 ID : 264330647643

Option 2 ID : 264330647646

Option 3 ID : 264330647644

Option 4 ID : 264330647645

Status : Answered

Chosen Option : 2

### Comprehension:

Read the given passage carefully and answer the questions that follow.

Throughout history, the intricacies of the human mind have been the subject of fascination and inquiry. From ancient philosophers to modern-day neuroscientists, the workings of the brain have been studied and analysed in an attempt to unravel its mysteries. However, despite centuries of research, much remains unknown about the complexities of human cognition and consciousness.

One of the most fascinating aspects of the human mind is its ability to create and imagine. The human mind has the capacity to conceptualise and bring into being ideas that were previously unknown or unimaginable, from artistic expression to scientific discovery. The process of creativity has captured the attention of scholars and laypeople alike and is both enigmatic and awe-inspiring.

There have been many theories proposed to explain the process of creativity. Some suggest that it is a purely subconscious process, while others argue that creativity is a result of conscious effort and intentional problem-solving. Still others suggest that creativity arises from a combination of conscious and subconscious processes.

Despite the ongoing debate over the nature of creativity, one thing is clear: it is a multifaceted and complex phenomenon. Creativity can manifest in a wide range of human activities, from the creation of art and literature to the development of scientific theories and inventions. It can occur in both individual and collective contexts and can be driven by a variety of factors such as curiosity, passion, or the desire for recognition.

Creativity also has the potential to bring about positive change in the world. Throughout history, creative individuals and groups have used their talents to address social, political, and environmental challenges, often inspiring others to take action and make a difference. From the abolitionist movement to the civil rights movement to the environmental movement, creativity has played a crucial role in promoting social justice and positive change.

Despite the many benefits of creativity, it is not without its challenges. The process of creative expression can be fraught with obstacles, from self-doubt and insecurity to external pressures and constraints. Moreover, not all creative ideas are successful or well-received, and many artists and innovators face rejection and criticism as they seek to bring their ideas to fruition.

Despite these challenges, however, the human drive to create and imagine persists. Individuals and groups continue to harness the power of creativity to make a difference in the world. From the humblest amateur artist to the most celebrated innovator, the human capacity for creativity remains one of our greatest strengths and sources of inspiration.

### SubQuestion No : 49

Q.49 Select the most appropriate ANTONYM for the word 'fraught'.

- Ans
- 1. Beset
  - 2. Tranquil
  - 3. Devoid
  - 4. Calm

Question ID : 264330165137

Option 1 ID : 264330647655

Option 2 ID : 264330647656

Option 3 ID : 264330647657

Option 4 ID : 264330647658

Status : Answered

Chosen Option : 3

### Comprehension:

Read the given passage carefully and answer the questions that follow.

Throughout history, the intricacies of the human mind have been the subject of fascination and inquiry. From ancient philosophers to modern-day neuroscientists, the workings of the brain have been studied and analysed in an attempt to unravel its mysteries. However, despite centuries of research, much remains unknown about the complexities of human cognition and consciousness.

One of the most fascinating aspects of the human mind is its ability to create and imagine. The human mind has the capacity to conceptualise and bring into being ideas that were previously unknown or unimaginable, from artistic expression to scientific discovery. The process of creativity has captured the attention of scholars and laypeople alike and is both enigmatic and awe-inspiring.

There have been many theories proposed to explain the process of creativity. Some suggest that it is a purely subconscious process, while others argue that creativity is a result of conscious effort and intentional problem-solving. Still others suggest that creativity arises from a combination of conscious and subconscious processes.

Despite the ongoing debate over the nature of creativity, one thing is clear: it is a multifaceted and complex phenomenon. Creativity can manifest in a wide range of human activities, from the creation of art and literature to the development of scientific theories and inventions. It can occur in both individual and collective contexts and can be driven by a variety of factors such as curiosity, passion, or the desire for recognition.

Creativity also has the potential to bring about positive change in the world. Throughout history, creative individuals and groups have used their talents to address social, political, and environmental challenges, often inspiring others to take action and make a difference. From the abolitionist movement to the civil rights movement to the environmental movement, creativity has played a crucial role in promoting social justice and positive change.

Despite the many benefits of creativity, it is not without its challenges. The process of creative expression can be fraught with obstacles, from self-doubt and insecurity to external pressures and constraints. Moreover, not all creative ideas are successful or well-received, and many artists and innovators face rejection and criticism as they seek to bring their ideas to fruition.

Despite these challenges, however, the human drive to create and imagine persists. Individuals and groups continue to harness the power of creativity to make a difference in the world. From the humblest amateur artist to the most celebrated innovator, the human capacity for creativity remains one of our greatest strengths and sources of inspiration.

### SubQuestion No : 50

**Q.50 Which of the following factors can drive creativity?**

- Ans
- 1. External pressures and constraints
  - 2. Fancy and imagination
  - 3. Self-doubt and insecurity
  - 4. Curiosity and passion

Question ID : 264330165135

Option 1 ID : 264330647648

Option 2 ID : 264330647650

Option 3 ID : 264330647647

Option 4 ID : 264330647649

Status : Answered

Chosen Option : 4

## Sub Inspector in Delhi Police and Central Armed Police Forces Examination 2023 Paper I

Roll Number	qmaths.in
Candidate Name	KD JOB UPDATES
Venue Name	iON Digital Zone iDZ Bodri Near high court
Exam Date	04/10/2023
Exam Time	4:00 PM - 6:00 PM
Subject	SICPO Paper I 2023

Section : General I

Q.1 छः विद्यार्थी श्री, दयाल, शारदा, तृप्ति, सृष्टि और मंजू एक वृत्ताकार मेज के परितः केंद्र की ओर मुख करके बैठे हैं (उनका इसी क्रम में होना अनिवार्य नहीं है)। श्री, दयाल और तृप्ति दोनों के ठीक बगल में है। मंजू, दयाल के दाईं ओर दूसरे स्थान पर बैठी है। सृष्टि, मंजू और तृप्ति दोनों के ठीक बगल में है। शारदा के ठीक बगल में कौन है?

- Ans
- 1. सृष्टि
  - 2. तृप्ति
  - 3. श्री
  - 4. दयाल

Question ID : 26433082278  
Option 1 ID : 264330322948  
Option 2 ID : 264330322947  
Option 3 ID : 264330322945  
Option 4 ID : 264330322946  
Status : Answered  
Chosen Option : 4

Q.2 यदि A का अर्थ '+' हो, B का अर्थ '×' हो, C का अर्थ '-' हो और D का अर्थ '÷' हो, तो निम्नलिखित समीकरण का मान कितना होगा?  
 $16 B 5 A 112 D 8 C 32 = ?$

- Ans
- 1. 57
  - 2. 65
  - 3. 72
  - 4. 62

Question ID : 264330129783  
Option 1 ID : 264330508363  
Option 2 ID : 264330508364  
Option 3 ID : 264330508365  
Option 4 ID : 264330508366  
Status : Answered  
Chosen Option : 4

Q.3 एक निश्चित कूट भाषा में, 'ACTION' को 'TXANLI' और 'DEBATE' को 'BVDEGA' के रूप में लिखा जाता है। उसी कूट भाषा में 'CHANGE' को किस प्रकार लिखा जाएगा?

- Ans
- 1. BJDLER
  - 2. ATHFN
  - 3. HRPEIU
  - 4. ASCETN

Question ID : 26433074764

Option 1 ID : 264330293147

Option 2 ID : 264330293144

Option 3 ID : 264330293145

Option 4 ID : 264330293146

Status : Not Answered

Chosen Option : --

Q.4 नीचे तीन कथन और उसके बाद I, II और III क्रमांक वाले तीन निष्कर्ष दिए गए हैं। यह मानते हुए कि कथनों में दी गई जानकारी सत्य है, भले ही ये कथन सामान्य रूप से ज्ञात तथ्यों से भिन्न प्रतीत होते हों, यह निर्णय कीजिए कि कौन से निष्कर्ष इन कथनों का तार्किक रूप से पालन करते हैं?

कथन:

सभी मैदान पहाड़ हैं।  
कोई समुद्र पहाड़ नहीं है।  
कुछ घाटियां समुद्र हैं।

निष्कर्ष:

- I. कुछ घाटियां मैदान हैं।
- II. कोई घाटी पहाड़ नहीं है।
- III. कोई समुद्र मैदान नहीं है।

- Ans
- 1. केवल निष्कर्ष II पालन करता है।
  - 2. केवल निष्कर्ष I पालन करता है।
  - 3. निष्कर्ष I और II दोनों पालन करते हैं।
  - 4. केवल निष्कर्ष III पालन करता है।

Question ID : 264330145340

Option 1 ID : 264330569617

Option 2 ID : 264330569618

Option 3 ID : 264330569615

Option 4 ID : 264330569616

Status : Answered

Chosen Option : 4

Q.5 उस विकल्प का चयन करें जो चौथे पद से उसी प्रकार संबंधित है जिस प्रकार पहला पद, दूसरे पद से संबंधित है और पांचवां पद, छठे पद से संबंधित है।  
5 : 24 :: ? : 143 :: 4 : 15

- Ans
- 1. 7
  - 2. 12
  - 3. 11
  - 4. 8

Question ID : 26433079355

Option 1 ID : 264330311408

Option 2 ID : 264330311410

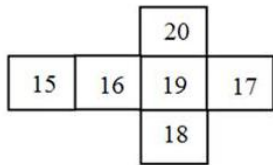
Option 3 ID : 264330311411

Option 4 ID : 264330311409

Status : Answered

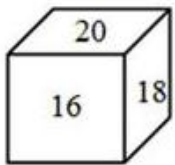
Chosen Option : 2

Q.6 यदि दी गई शीट को मोड़कर एक घन का आकार दिया जाता है, तो विकल्पों में से कौन-सी आकृति संभव है?

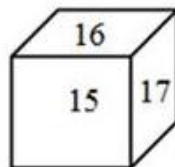


Ans

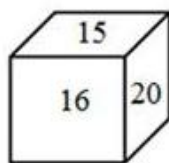
✗ 1.



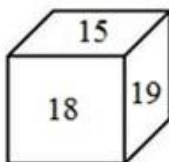
✗ 2.



✓ 3.



✗ 4.



Question ID : 26433059913  
Option 1 ID : 264330234484  
Option 2 ID : 264330234485  
Option 3 ID : 264330234486  
Option 4 ID : 264330234487

Status : Answered

Chosen Option : 3

Q.7 एक निश्चित कूट भाषा में "GBTA" को "24" के रूप में कूटबद्ध किया जाता है, और "ZWQVI" को "30" के रूप में कूटबद्ध किया जाता है। उसी कूट भाषा में "DLUCPR" को किस प्रकार कूटबद्ध किया जाएगा?

Ans ✗ 1. 28

✗ 2. 24

✗ 3. 30

✓ 4. 36

Question ID : 264330132245  
Option 1 ID : 264330518075  
Option 2 ID : 264330518076  
Option 3 ID : 264330518077  
Option 4 ID : 264330518078

Status : Answered

Chosen Option : 4

Q.8 "P \$ Q" का अर्थ है "P, Q की पुत्री है"  
 "P ? Q" का अर्थ है "P, Q का पुत्र है"  
 "P \* Q" का अर्थ है "P, Q की बहन है"  
 "P = Q" का अर्थ है "P, Q का पिता है"  
 यदि 'D \$ G \* U ? F' है, तो G का F से क्या संबंध है?

- Ans  1. पुत्री  
 2. मौसी  
 3. भाई  
 4. बुआ

Question ID : 26433090231

Option 1 ID : 264330354403

Option 2 ID : 264330354401

Option 3 ID : 264330354404

Option 4 ID : 264330354402

Status : Answered

Chosen Option : 1

Q.9 उस विकल्प आकृति का चयन करें जिसमें उसके भाग के रूप में दी गई आकृति सन्निहित है (आकृति को घुमाने की अनुमति नहीं है)।



Ans

- 1.
- 2.
- 3.
- 4.

Question ID : 264330117423

Option 1 ID : 264330461734

Option 2 ID : 264330461735

Option 3 ID : 264330461733

Option 4 ID : 264330461736

Status : Answered

Chosen Option : 3

Q.10 उस विकल्प का चयन कीजिए, जो दिए गए शब्दों के उस सही क्रम को दर्शाता है, जिस क्रम में वे अंग्रेजी शब्दकोश में मौजूद होते हैं।

- 1.Puritan
- 2.Purpose
- 3.Purge
- 4.Purgatory
- 5.Purify

Ans  1. 3, 4, 5, 1, 2

2. 4, 3, 5, 1, 2

3. 5, 4, 3, 1, 2

4. 4, 5, 3, 1, 2

Question ID : 26433067242

Option 1 ID : 264330263483

Option 2 ID : 264330263481

Option 3 ID : 264330263480

Option 4 ID : 264330263482

Status : Answered

Chosen Option : 2

Q.11 यदि '+' का अर्थ '-' है, '-' का अर्थ 'x' है, 'x' का अर्थ '+' है और '+' का अर्थ '+' है, तो निम्नलिखित समीकरण में '?' के स्थान पर क्या आएगा?

$$83 \div 12 - 65 \times 13 + 47 = ?$$

Ans  1. 96

2. 92

3. 79

4. 108

Question ID : 264330101151

Option 1 ID : 264330397151

Option 2 ID : 264330397149

Option 3 ID : 264330397152

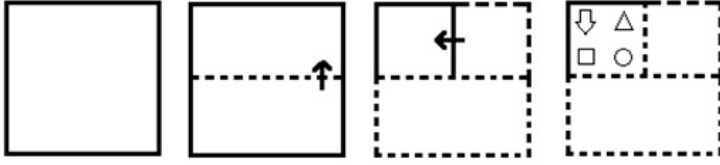
Option 4 ID : 264330397150

Status : Answered

Chosen Option : 1




Q.12 निम्नलिखित आकृतियों में कागज के एक टुकड़े को मोड़ने का क्रम और मुड़े हुए कागज को काटने का तरीका दर्शाया गया है। कागज की तह खुलने पर यह कैसा दिखाई देगा?

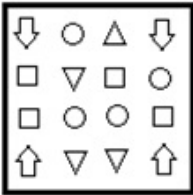


Ans

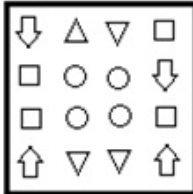
✗ 1.



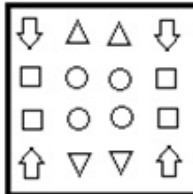
✗ 2.



✗ 3.



✓ 4.



KD JOB UPDATES

Question ID : 26433074794

Option 1 ID : 264330293265

Option 2 ID : 264330293264

Option 3 ID : 264330293267

Option 4 ID : 264330293266

Status : Answered

Chosen Option : 4

Q.13 उस समुच्चय का चयन कीजिए जिसमें संख्याएँ एक-दूसरे से उसी प्रकार संबंधित हैं जिस प्रकार निम्नलिखित समुच्चय की संख्याएँ आपस में संबंधित हैं।

(नोट: संख्याओं को उसके घटक अंकों में विभाजित किए बिना, पूर्ण संख्याओं पर गणितीय संक्रियाएँ की जानी चाहिए। उदाहरण के लिए 13 - संख्या 13 पर गणितीय संक्रियाएँ जैसे कि जोड़ना / घटाना / गुणा करना आदि को 13 से किया जा सकता है। 13 को 1 और 3 में तोड़ना और फिर 1 और 3 पर गणितीय संक्रियाएँ करने की अनुमति नहीं है)

(1, 16, 3)  
(21, 529, 2)

- Ans  1. (5, 189, 8)  
 2. (7, 364, 12)  
 3. (11, 429, 2)  
 4. (8, 100, 2)

Question ID : 264330145317

Option 1 ID : 264330569524

Option 2 ID : 264330569525

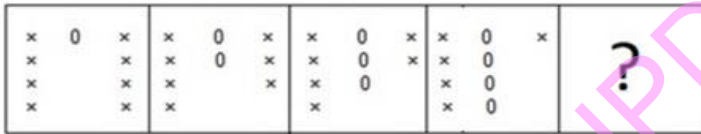
Option 3 ID : 264330569526

Option 4 ID : 264330569523

Status : Answered

Chosen Option : 4

Q.14 दिए गए विकल्पों में से उस आकृति का चयन करें, जो निम्नलिखित शृंखला में प्रश्नचिह्न (?) को प्रतिस्थापित करेगी।



Ans

1. 

x 0
x 0
x 0
x
x
2. 

x 0
x 0
x 0
x 0
x 0
3. 

x 0
x 0
x 0
x 0
4. 

x 0
x 0
x 0
x 0
0

Question ID : 26433087153

Option 1 ID : 264330342250

Option 2 ID : 264330342249

Option 3 ID : 264330342251

Option 4 ID : 264330342252

Status : Answered

Chosen Option : 2

Q.15 सात छात्र A, B, C, D, E, F और G किसी वृत्ताकार मेज के परितः केंद्र की ओर मुख करके बैठे हैं। C, E और F के ठीक बगल में है। D, C के बाईं ओर तीसरे स्थान पर, और A के दाईं ओर ठीक बगल में है। A, E के दाईं ओर दूसरे स्थान पर बैठा है। B, E और A दोनों के ठीक बगल में है। G, F के बाईं ओर ठीक बगल में है। C और G दोनों के ठीक बगल में कौन है?

- Ans
- 1. A
  - 2. D
  - 3. E
  - 4. F

Question ID : 264330145421

Option 1 ID : 264330569940

Option 2 ID : 264330569942

Option 3 ID : 264330569941

Option 4 ID : 264330569939

Status : Not Attempted and Marked For Review

Chosen Option : --

Q.16 दो कथन दिए गए हैं, जिसके बाद दो निष्कर्ष I और II दिए गए हैं। कथनों को सत्य मानते हुए, भले ही वे सामान्य रूप से ज्ञात तथ्यों से भिन्न प्रतीत होते हों, निर्णय लें कि कौन-से निष्कर्ष कथनों का तार्किक रूप से पालन करते हैं?

कथन:

सभी बच्चे, छोटे हैं।

कुछ मज़ाकिया, बच्चे हैं।

निष्कर्ष:

I) कुछ मज़ाकिया, छोटे हैं।

II) कुछ छोटे, बच्चे हैं।

- Ans
- 1. केवल निष्कर्ष II पालन करता है।
  - 2. केवल निष्कर्ष I पालन करता है।
  - 3. निष्कर्ष I और II दोनों पालन करते हैं।
  - 4. न तो निष्कर्ष I और न ही निष्कर्ष II पालन करता है।

Question ID : 26433067703

Option 1 ID : 264330265325

Option 2 ID : 264330265324

Option 3 ID : 264330265326

Option 4 ID : 264330265327

Status : Answered

Chosen Option : 3

Q.17 एक निश्चित कूट भाषा में, 'HUSTLE' को 'SFHEOT' और 'BRIGHT' को 'IIBTSG' के रूप में लिखा जाता है। उसी कूट भाषा में 'TUNNEL' को किस प्रकार लिखा जाएगा?

- Ans
- 1. RNLPED
  - 2. NGTYPN
  - 3. NRTPEN
  - 4. NFTLVN

Question ID : 26433074761

Option 1 ID : 264330293135

Option 2 ID : 264330293132

Option 3 ID : 264330293134

Option 4 ID : 264330293133

Status : Answered

Chosen Option : 4

Q.18 निम्नलिखित में से तीन अक्षर-समूह किसी न किसी तरह से संगत हैं, और एक असंगत है। असंगत अक्षर समूह का चयन करें।

- Ans  1. DYUR  
 2. QLHE  
 3. JEAX  
 4. WDXC

Question ID : 264330145346  
Option 1 ID : 264330569640  
Option 2 ID : 264330569642  
Option 3 ID : 264330569641  
Option 4 ID : 264330569639  
Status : Answered  
Chosen Option : 4

Q.19 उस विकल्प का चयन कीजिए, जो उन अक्षरों को निरूपित करता है, जिन्हें निम्न रिक्त स्थानों में बाएं से दाएं रखे जाने पर, वे अक्षर श्रृंखला को पूरा कर देंगे।

P \_ RR \_ PQ \_ \_ S \_ QR \_ SP \_ RRS

- Ans  1. RQPQRSQ  
 2. QSRRPRQ  
 3. SQRRQPR  
 4. SQQRRPQ

Question ID : 264330180746  
Option 1 ID : 264330708954  
Option 2 ID : 264330708952  
Option 3 ID : 264330708951  
Option 4 ID : 264330708953  
Status : Answered  
Chosen Option : 2

Q.20 यदि '+' का अर्थ '-' है, '-' का अर्थ 'x' है, 'x' का अर्थ '+' है और '+' का अर्थ '+' है, तो निम्नलिखित समीकरण में '?' के स्थान पर क्या आएगा?  
 $121 \times 11 \div 28 - 3 + 46 = ?$

- Ans  1. 71  
 2. 43  
 3. 49  
 4. 65

Question ID : 264330101148  
Option 1 ID : 264330397139  
Option 2 ID : 264330397137  
Option 3 ID : 264330397140  
Option 4 ID : 264330397138  
Status : Answered  
Chosen Option : 3

Q.21 निम्नलिखित में से कौन-सा पद दी गई श्रृंखला में प्रश्नवाचक चिह्न (?) का स्थान लेगा?

LDEA NGIF ? RMQP TPUU

- Ans  1. PJMK  
 2. PMIK  
 3. PIMK  
 4. PMJK

Question ID : 26433085319

Option 1 ID : 264330334978

Option 2 ID : 264330334979

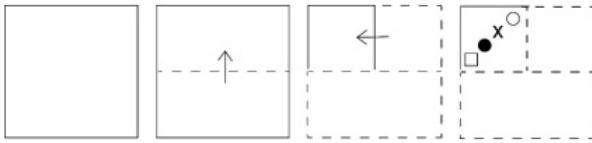
Option 3 ID : 264330334977

Option 4 ID : 264330334980

Status : Answered

Chosen Option : 1

Q.22 एक कागज को नीचे दिखाए गए अनुसार मोड़ा और काटा जाता है। खोले जाने पर यह कैसा दिखाई देगा?



Ans

- 1.
- 2.
- 3.
- 4.

Question ID : 264330103007

Option 1 ID : 264330404420

Option 2 ID : 264330404418

Option 3 ID : 264330404419

Option 4 ID : 264330404417

Status : Answered

Chosen Option : 4

Q.23 एक निश्चित कूट भाषा में "COACH" को XAOHC के रूप में कूटबद्ध किया जाता है, और "BERTH" को WREHT के रूप में कूटबद्ध किया जाता है। उसी कूट भाषा में "TRAIN" को किस प्रकार कूटबद्ध किया जाएगा?

- Ans
- 1. PARIN
  - 2. ONIAR
  - 3. PARNI
  - 4. OARNI

Question ID : 264330132209

Option 1 ID : 264330517933

Option 2 ID : 264330517932

Option 3 ID : 264330517931

Option 4 ID : 264330517934

Status : Answered

Chosen Option : 3

Q.24 उस विकल्प का चयन कीजिए, जो उन अक्षरों को निरूपित करता है, जिन्हें क्रमिक रूप से नीचे दिए गए रिक्त स्थानों में रखे जाने पर वे अक्षर-श्रृंखला को पूर्ण करेंगे।

P \_ \_ O N \_ L B \_ N P L \_ O \_ P L \_ \_ N

- Ans
- 1. LBPBONBO
  - 2. LBPOBNBO
  - 3. LPBOBNNO
  - 4. LBPOBBNO

Question ID : 26433068924

Option 1 ID : 264330270211

Option 2 ID : 264330270210

Option 3 ID : 264330270209

Option 4 ID : 264330270208

Status : Answered

Chosen Option : 2

Q.25 उस विकल्प का चयन करें, जो तीसरे शब्द से उसी प्रकार संबंधित है, जिस प्रकार दूसरा शब्द पहले शब्द से संबंधित है। (शब्दों को अर्थपूर्ण शब्दों के रूप में माना जाना चाहिए, और इनको शब्द में अक्षरों की संख्या/व्यंजनों/स्वरों की संख्या के आधार पर एक-दूसरे से संबंधित नहीं किया जाना चाहिए।)  
व्हेल (Whale) : स्तनपायी (Mammal) :: मगरमच्छ (Crocodile) : ?

- Ans
- 1. समुद्र (Sea)
  - 2. कृतक (Rodent)
  - 3. सरीसृप (Reptile)
  - 4. उभयचर (Amphibian)

Question ID : 26433091600

Option 1 ID : 264330359768

Option 2 ID : 264330359766

Option 3 ID : 264330359767

Option 4 ID : 264330359765

Status : Answered

Chosen Option : 3

Q.26 इस प्रश्न में, तीन कथन और उसके बाद दो निष्कर्ष I और II दिए गए हैं। कथनों को सत्य मानते हुए, भले ही वे सामान्यतः ज्ञात तथ्यों से भिन्न प्रतीत होते हों, निर्णय लें कि कौन-से निष्कर्ष तार्किक रूप से कथनों का पालन करते हैं?

कथन:

- I. कुछ कमरे, पिंजरे हैं।
- II. कुछ पिंजरे, बाड़े हैं।
- III. सभी बाड़े, घर हैं।

निष्कर्ष:

- I. कुछ घर, पिंजरे हैं।
- II. सभी कमरे, बाड़े हैं।

- Ans
- 1. न तो निष्कर्ष I और न ही निष्कर्ष II पालन करता है
  - 2. दोनों निष्कर्ष I और II पालन करते हैं
  - 3. केवल निष्कर्ष I पालन करता है
  - 4. केवल निष्कर्ष II पालन करता है

Question ID : 264330104077

Option 1 ID : 264330408612

Option 2 ID : 264330408611

Option 3 ID : 264330408609

Option 4 ID : 264330408610

Status : Answered

Chosen Option : 3

Q.27 निम्नलिखित में से कौन-सी संख्या दी गई श्रृंखला में प्रश्न चिह्न (?) के स्थान पर आएगी?  
261, 232, 203, ?, 145, 116

- Ans
- 1. 186
  - 2. 192
  - 3. 174
  - 4. 188

Question ID : 26433067625

Option 1 ID : 264330265012

Option 2 ID : 264330265014

Option 3 ID : 264330265013

Option 4 ID : 264330265015

Status : Answered

Chosen Option : 3

Q.28 X अपने घर से पूर्व की ओर 200 कदम दौड़ता है, और फिर एक मठ तक पहुंचने के लिए अपनी दाईं ओर मुड़कर 30 कदम दौड़ता है। फिर वह अपनी दाईं ओर 30 कदम दौड़ता है, और एक बिंदु W पर पहुंचता है। वहां से वह फिर से अपनी दाईं ओर मुड़ता है, और 30 कदम दौड़ता है। वहां से अपनी दाईं ओर मुड़कर वह 130 कदम दौड़ता है। फिर वह अपनी बाईं ओर मुड़ता है, और एक बेकरी तक पहुंचने के लिए 10 कदम दौड़ता है। X के घर के सापेक्ष बेकरी किस दिशा में है?

- Ans
- 1. उत्तर-पूर्व
  - 2. पूर्व
  - 3. उत्तर
  - 4. दक्षिण-पूर्व

Question ID : 26433057309

Option 1 ID : 264330224222

Option 2 ID : 264330224221

Option 3 ID : 264330224220

Option 4 ID : 264330224223

Status : Not Attempted and Marked For Review

Chosen Option : --

Q.29 निम्नलिखित में से कौन सी संख्या दी गई श्रेणी में प्रश्नचिह्न (?) के स्थान पर आएगी?  
112, 129, 150, 175, 204, ?

- Ans  1. 245  
 2. 240  
 3. 234  
 4. 237

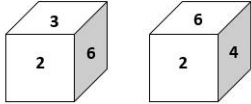
Question ID : 26433067867  
Option 1 ID : 264330265983  
Option 2 ID : 264330265980  
Option 3 ID : 264330265981  
Option 4 ID : 264330265982  
Status : Answered  
Chosen Option : 4

Q.30 निम्नलिखित में से कौन-सी संख्या दी गई श्रृंखला में प्रश्न चिह्न (?) को प्रतिस्थापित करेगी?  
3, 5, 7, 12, 37, 69, 357, ?

- Ans  1. 645  
 2. 665  
 3. 656  
 4. 654

Question ID : 264330145294  
Option 1 ID : 264330569433  
Option 2 ID : 264330569431  
Option 3 ID : 264330569432  
Option 4 ID : 264330569434  
Status : Not Answered  
Chosen Option : --

Q.31 एक ही पासे की दो अलग-अलग स्थितियाँ दिखाई गई हैं, जिनमें छः फलकों को 1 से 6 तक संख्यांकित किया गया है। उस संख्या का चयन करें, जो '4' को दर्शाने वाले फलक के विपरीत फलक पर होगी।



- Ans  1. 1  
 2. 3  
 3. 6  
 4. 5

Question ID : 26433058065  
Option 1 ID : 264330227245  
Option 2 ID : 264330227246  
Option 3 ID : 264330227247  
Option 4 ID : 264330227244  
Status : Answered  
Chosen Option : 2



Q.32 उस विकल्प का चयन कीजिए, जो तीसरे शब्द से उसी प्रकार संबंधित है, जिस प्रकार दूसरा शब्द पहले शब्द से संबंधित है। (शब्दों को अर्थपूर्ण शब्दों के रूप में माना जाना चाहिए, और वह शब्द में अक्षरों की संख्या/व्यंजनों/स्वरों की संख्या के आधार पर एक-दूसरे से संबंधित नहीं होना चाहिए।)

आह (Alas) : शोक (woe) :: सुंदरता (Beauty) : ?

- Ans
- 1. असुरूपता (Inelegance)
  - 2. आकर्षण (Charm)
  - 3. मिटाना (Expunge)
  - 4. असभ्यता (Crudeness)

Question ID : 264330145403

Option 1 ID : 264330569867

Option 2 ID : 264330569868

Option 3 ID : 264330569870

Option 4 ID : 264330569869

Status : Answered

Chosen Option : 2

Q.33 नीचे दिए गए चार अक्षर-समूहों में से तीन किसी प्रकार से आपस में संबंधित हैं और कोई एक उनसे असंगत है। असंगत अक्षर-समूह का चयन कीजिए।

- Ans
- 1. NJPM
  - 2. VRWU
  - 3. LHMK
  - 4. EAFD

Question ID : 264330180755

Option 1 ID : 264330708990

Option 2 ID : 264330708989

Option 3 ID : 264330708988

Option 4 ID : 264330708987

Status : Answered

Chosen Option : 1

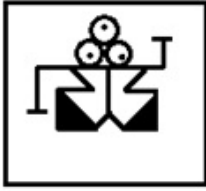
KD JOB UPDATES

Q.34 उस विकल्प आकृति का चयन करें जिसमें उसके भाग के रूप में दी गई आकृति सन्निहित है (आकृति को घुमाने की अनुमति नहीं है)।



Ans

✓ 1.



✗ 2.



✗ 3.



✗ 4.



Question ID : 264330117426

Option 1 ID : 264330461746

Option 2 ID : 264330461745

Option 3 ID : 264330461747

Option 4 ID : 264330461748

Status : Answered

Chosen Option : 1

Q.35 यदि '+' का अर्थ 'भाग देना' है, '-' का अर्थ 'जोड़ना' है, 'x' का अर्थ 'घटाना' है और '÷' का अर्थ 'गुणा करना' है, तो निम्नलिखित व्यंजक का मान क्या होगा?

$$\{[(23 \times 15) - (2 \div 2)] + (2 - 4)\} \div 2$$

Ans ✗ 1.6

✗ 2.8

✓ 3.4

✗ 4.2

Question ID : 264330130376

Option 1 ID : 264330510617

Option 2 ID : 264330510618

Option 3 ID : 264330510616

Option 4 ID : 264330510615


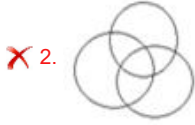
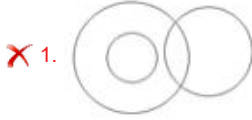
Status : Answered

Chosen Option : 3

Q.36 उस वेन आरेख का चयन करें, जो निम्नलिखित वर्गों के बीच के संबंध को सर्वोत्तम ढंग से दर्शाता है।

चम्मच, सूप, चावल

Ans



Question ID : 264330145360

Option 1 ID : 264330569698

Option 2 ID : 264330569696

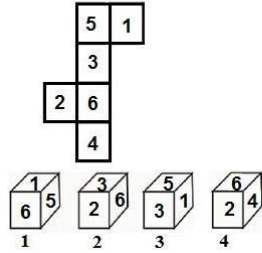
Option 3 ID : 264330569695

Option 4 ID : 264330569697

Status : Answered

Chosen Option : 3

Q.37 यदि दी गई शीट को मोड़कर एक घन बनाया जाए, तो निम्न में से कौन सी आकृति/आकृतियां बनना संभव है?  
(संख्या केवल घनों के फलकों को इंगित करने के लिए दी गई हैं)



Ans ✗ 1. केवल 1, 2 और 3

✗ 2. केवल 2 और 3

✓ 3. केवल 2, 3 और 4

✗ 4. 1, 2, 3 और 4 सभी

Question ID : 26433065673

Option 1 ID : 264330257253

Option 2 ID : 264330257254

Option 3 ID : 264330257255

Option 4 ID : 264330257252

Status : Answered

Chosen Option : 4

Q.38 उस समुच्चय का चयन कीजिए जिसमें संख्याएँ आपस में उसी प्रकार संबंधित हैं जिस प्रकार निम्नलिखित समुच्चयों की संख्याएँ आपस में संबंधित हैं। (नोट: संख्याओं को उसके घटक अंकों में विभाजित किए बिना, पूर्ण संख्याओं पर गणितीय संक्रियाएं की जानी चाहिए। उदाहरण के लिए 13 - गणितीय संक्रियाएं जैसे कि जोड़ना/घटाना/गुणा करना इत्यादि 13 में किया जा सकता है। 13 को 1 और 3 में विभाजित करना और फिर 1 और 3 पर गणितीय संक्रियाएँ करने की अनुमति नहीं है।)

(13, 18, 21)  
(11, 25, 8)

- Ans  1. (8, 16, 23)  
 2. (4, 12, 24)  
 3. (6, 10, 12)  
 4. (14, 33, 9)

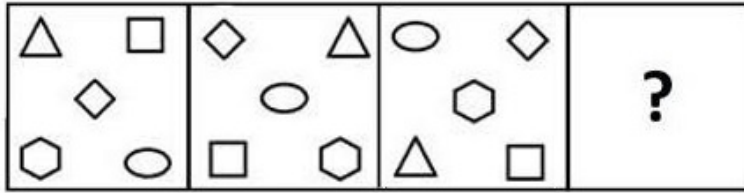
Question ID : 26433057438  
Option 1 ID : 264330224738  
Option 2 ID : 264330224737  
Option 3 ID : 264330224739  
Option 4 ID : 264330224736  
Status : Not Answered  
Chosen Option : --

Q.39 A @ B का अर्थ है "A, B का पति है"  
A & B का अर्थ है "A, B की माता है"  
A # B का अर्थ है "A, B की पुत्री है"  
यदि L @ M & K @ J # P है, तो J का L से क्या संबंध है?

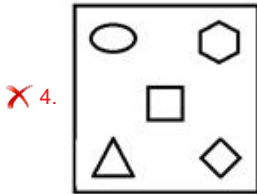
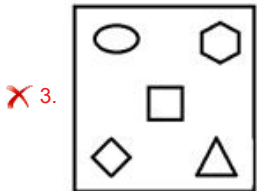
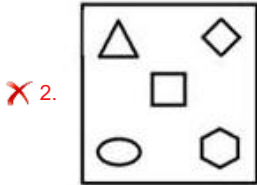
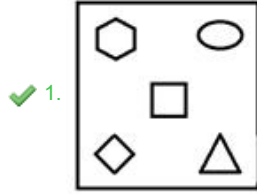
- Ans  1. पुत्र  
 2. दामाद  
 3. पुत्रवधू  
 4. माता

Question ID : 264330126022  
Option 1 ID : 264330493761  
Option 2 ID : 264330493760  
Option 3 ID : 264330493762  
Option 4 ID : 264330493763  
Status : Answered  
Chosen Option : 3

Q.40 उत्तर आकृतियों में से उस उपयुक्त आकृति का चयन कीजिए जो प्रश्नवाचक चिह्न (?) को प्रतिस्थापित कर सके।



Ans



KD JOB UPDATES

Question ID : 26433066046

Option 1 ID : 264330258729

Option 2 ID : 264330258731

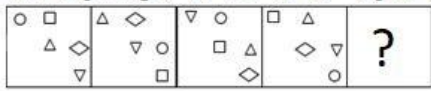
Option 3 ID : 264330258728

Option 4 ID : 264330258730

Status : Answered

Chosen Option : 1

Q.41 वह आकृति चुनें, जो नीचे दी गई आकृति श्रृंखला में प्रश्न चिह्न (?) के स्थान पर आएगी।

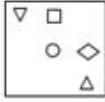


Ans

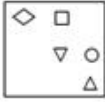
✗ 1.



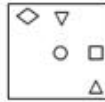
✗ 2.



✗ 3.



✓ 4.



Question ID : 264330145491

Option 1 ID : 264330570221

Option 2 ID : 264330570222

Option 3 ID : 264330570219

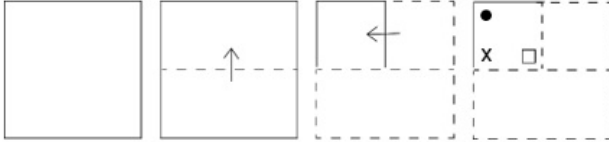
Option 4 ID : 264330570220

Status : Answered

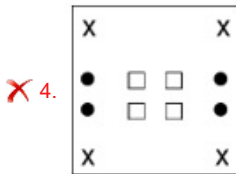
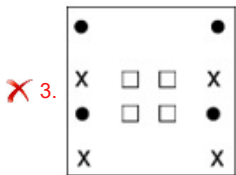
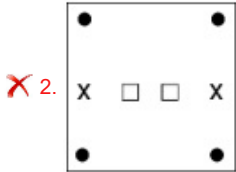
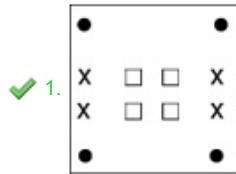
Chosen Option : 4

KD JOB UPDATES

Q.42 एक कागज को नीचे दिखाए गए अनुसार मोड़ा और काटा जाता है। खोले जाने पर यह कैसा दिखाई देगा?



Ans



Question ID : 264330103005

Option 1 ID : 264330404412

Option 2 ID : 264330404409

Option 3 ID : 264330404411

Option 4 ID : 264330404410

Status : Answered

Chosen Option : 1

Q.43 उस सही विकल्प का चयन कीजिए, जो दिए गए शब्दों के उसी क्रम में व्यवस्थापन को दर्शाता है, जिस क्रम में वे अंग्रेजी शब्दकोश में मौजूद होते हैं।

1. Stoop
2. Stoke
3. Storage
4. Stock
5. Storey
6. Stomach

Ans ✗ 1. 4, 2, 6, 3, 1, 5

✓ 2. 4, 2, 6, 1, 3, 5

✗ 3. 2, 4, 6, 1, 3, 5

✗ 4. 2, 4, 6, 3, 1, 5

Question ID : 264330145380

Option 1 ID : 264330569776

Option 2 ID : 264330569777

Option 3 ID : 264330569778

Option 4 ID : 264330569775

Status : Answered

Chosen Option : 2

Q.44 एक निश्चित कूट भाषा में, "HORSE" को 75 और "MOVE" को 63 के रूप में कूटबद्ध किया जाता है। उसी कूट भाषा में "RACE" को किस प्रकार कूटबद्ध किया जाएगा?

- Ans  1. 35  
 2. 48  
 3. 32  
 4. 46

Question ID : 26433074708  
Option 1 ID : 264330292921  
Option 2 ID : 264330292923  
Option 3 ID : 264330292920  
Option 4 ID : 264330292922  
Status : Not Answered  
Chosen Option : --

Q.45 यदि '+' का अर्थ '-', '-' का अर्थ '×', '×' का अर्थ '÷', '÷' का अर्थ '+' हो, तो निम्नलिखित समीकरण में प्रश्न चिह्न (?) के स्थान पर क्या आएगा?  
 $14 - 7 \div 42 \times 6 + 33 = ?$

- Ans  1. 68  
 2. 84  
 3. 56  
 4. 72

Question ID : 264330126056  
Option 1 ID : 264330493898  
Option 2 ID : 264330493896  
Option 3 ID : 264330493897  
Option 4 ID : 264330493899  
Status : Answered  
Chosen Option : 4

Q.46 सोना प्रतिदिन पार्क में टहलने जाती है। एक सुबह, वह अपने घर से टहलना आरंभ करती है, और उत्तर की ओर 40 km चलती है। फिर वह दाईं ओर मुड़ती है, और 60 km चलती है। वह फिर से दाईं ओर मुड़ती है, और 40 km चलती है। अंत में, वह बाईं ओर मुड़ती है, और 60 km चलती है। वह अपने घर से किस दिशा में और कितनी दूरी पर है?

- Ans  1. पश्चिम, 120 km  
 2. पश्चिम, 60 km  
 3. पूर्व, 90 km  
 4. पूर्व, 120 km

Question ID : 26433097223  
Option 1 ID : 264330381591  
Option 2 ID : 264330381589  
Option 3 ID : 264330381590  
Option 4 ID : 264330381592  
Status : Answered  
Chosen Option : 4



Q.47 उस विकल्प का चयन करें जो चौथे पद से उसी प्रकार संबंधित है जिस प्रकार पहला पद, दूसरे पद से संबंधित है और पांचवां पद, छठे पद से संबंधित है।  
2 : 26 :: ? : 152 :: 27 : 1026

- Ans
- 1. 13
  - 2. 6
  - 3. 24
  - 4. 8

Question ID : 26433079358  
Option 1 ID : 264330311420  
Option 2 ID : 264330311421  
Option 3 ID : 264330311423  
Option 4 ID : 264330311422  
Status : Answered  
Chosen Option : 2

Q.48 निम्नलिखित में से कौन-सी संख्या दी गई श्रृंखला में प्रश्नवाचक चिह्न (?) का स्थान लेगी?

38, 57, 40, 59, 42, ?

- Ans
- 1. 61
  - 2. 59
  - 3. 62
  - 4. 60

Question ID : 26433057339  
Option 1 ID : 264330224342  
Option 2 ID : 264330224340  
Option 3 ID : 264330224343  
Option 4 ID : 264330224341  
Status : Answered  
Chosen Option : 1

Q.49 यदि '+' का अर्थ '-', '-' का अर्थ 'x', 'x' का अर्थ '=' और '=' का अर्थ '+' है, तो दिए गए समीकरण में (?) के स्थान पर क्या आएगा?  
 $30 + 5 - 2 \times 10 \div 2 = ?$

- Ans
- 1. 50
  - 2. 60
  - 3. 31
  - 4. 80

Question ID : 264330106671  
Option 1 ID : 264330418985  
Option 2 ID : 264330418987  
Option 3 ID : 264330418986  
Option 4 ID : 264330418988  
Status : Answered  
Chosen Option : 3

Q.50 दिए गए समीकरण को सही बनाने के लिए किन दो चिह्नों को आपस में बदला जाना चाहिए?  
 $31 \div 48 \times 7 - 322 + 23 = 353$

- Ans
- 1. - और ×
  - 2. + और -
  - 3. × और +
  - 4. ÷ और +

Question ID : 264330129527  
Option 1 ID : 264330507477  
Option 2 ID : 264330507474  
Option 3 ID : 264330507476  
Option 4 ID : 264330507475  
Status : Answered  
Chosen Option : 4

Section : General Knowledge and General Awareness

Q.1 निम्नलिखित में से कौन सा राज्य 2023 पुरुष हॉकी विश्व कप की मेजबानी करेगा?

- Ans
- 1. छत्तीसगढ़
  - 2. ओडिशा
  - 3. महाराष्ट्र
  - 4. झारखंड

Question ID : 264330109848  
Option 1 ID : 264330431672  
Option 2 ID : 264330431669  
Option 3 ID : 264330431670  
Option 4 ID : 264330431671  
Status : Answered  
Chosen Option : 2

Q.2 निम्नलिखित में से किस कर का भुगतान करने का दायित्व और वास्तविक भार, दो अलग-अलग व्यक्तियों पर होता है?

- Ans
- 1. पूंजी लाभ कर
  - 2. आयकर
  - 3. वस्तु एवं सेवा कर
  - 4. निगम कर

Question ID : 264330145240  
Option 1 ID : 264330569216  
Option 2 ID : 264330569218  
Option 3 ID : 264330569217  
Option 4 ID : 264330569215  
Status : Answered  
Chosen Option : 3

Q.3 भारत के प्रमुख जूट उत्पादक राज्यों के समूह की पहचान करें।

- Ans
- 1. केरल, तमिलनाडु, तेलंगाना, मध्य प्रदेश
  - 2. राजस्थान, महाराष्ट्र, कर्नाटक, गुजरात
  - 3. पश्चिम बंगाल, बिहार, असम, उड़ीसा
  - 4. पंजाब, हरियाणा, उत्तराखंड, हिमाचल प्रदेश

Question ID : 264330113263

Option 1 ID : 264330445140

Option 2 ID : 264330445138

Option 3 ID : 264330445137

Option 4 ID : 264330445139

Status : Answered

Chosen Option : 3

Q.4 किस मणिपुरी नृत्य विशेषज्ञ ने इंफाल में महिलाओं के लिए गोविंदजी नर्तनालय नृत्य विद्यालय की स्थापना की थी?

- Ans
- 1. गुरु बिपिन सिंह (Guru Bipin Singh)
  - 2. राजकुमार सिंहजीत सिंह (Rajkumar Singhajit Singh)
  - 3. फांजौबम इबोटन सिंह (Phanjoubam Iboton Singh)
  - 4. गुरु अमुबी (Guru Amubi)

Question ID : 26433054508

Option 1 ID : 264330213016

Option 2 ID : 264330213017

Option 3 ID : 264330213019

Option 4 ID : 264330213018

Status : Answered

Chosen Option : 1

Q.5 वर्तमान में पृथ्वी की आयु \_\_\_\_\_ मानी जाती है।

- Ans
- 1. 4 अरब वर्ष
  - 2. 3.5 अरब वर्ष
  - 3. 4.5 अरब वर्ष
  - 4. 5 अरब वर्ष

Question ID : 26433064466

Option 1 ID : 264330252458

Option 2 ID : 264330252459

Option 3 ID : 264330252457

Option 4 ID : 264330252456

Status : Answered

Chosen Option : 1

Q.6 बिष्णु राभा पुरस्कार, 2019 प्रख्यात \_\_\_\_\_ नृत्य प्रतिपादक (exponent) कुमारी लैतोंजम एबाम्पिसोक देवी (Kumari Laitonjam Ebampisok Devi) को प्रदान किया गया।

- Ans
- 1. ओडिसी
  - 2. मणिपुरी
  - 3. कथकली
  - 4. कुचिपुडी

Question ID : 26433054503

Option 1 ID : 264330212999

Option 2 ID : 264330212996

Option 3 ID : 264330212997

Option 4 ID : 264330212998

Status : Answered

Chosen Option : 2

Q.7 पद्म भूषण पुरस्कार से सम्मानित कुमुदिनी लाखिया निम्नलिखित में से किस नृत्य शैली के लिए प्रसिद्ध हैं?

- Ans
- 1. ओडिसी
  - 2. कुचिपुड़ी
  - 3. कथक
  - 4. भरतनाट्यम्

Question ID : 264330145166  
Option 1 ID : 264330568922  
Option 2 ID : 264330568921  
Option 3 ID : 264330568920  
Option 4 ID : 264330568919  
Status : Answered  
Chosen Option : 3

Q.8 निम्नलिखित में से किस अधिकार को 44वें संविधान संशोधन अधिनियम द्वारा मूल अधिकारों की सूची से हटा दिया गया था?

- Ans
- 1. संपत्ति का अधिकार
  - 2. समानता का अधिकार
  - 3. स्वतंत्रता का अधिकार
  - 4. धार्मिक स्वतंत्रता का अधिकार

Question ID : 264330111521  
Option 1 ID : 264330438172  
Option 2 ID : 264330438169  
Option 3 ID : 264330438170  
Option 4 ID : 264330438171  
Status : Answered  
Chosen Option : 1

Q.9 निम्न में से कौन सा सुमेलित नहीं है?

- Ans
- 1. चालकत्व - सीमेंस
  - 2. संधारित्र - डाइन
  - 3. वोल्टेज - वोल्ट
  - 4. प्रतिरोध - ओम

Question ID : 264330111864  
Option 1 ID : 264330439542  
Option 2 ID : 264330439544  
Option 3 ID : 264330439543  
Option 4 ID : 264330439541  
Status : Answered  
Chosen Option : 1

Q.10 मुहम्मद बिन तुगलक के सिंहासन का उत्तराधिकारी निम्नलिखित में से कौन था?

- Ans
- 1. नसीरुद्दीन महमूद शाह तुगलक
  - 2. अबू बक्र शाह तुगलक
  - 3. गयासुद्दीन तुगलक शाह द्वितीय
  - 4. फिरोज शाह तुगलक

Question ID : 26433071394  
Option 1 ID : 264330280003  
Option 2 ID : 264330280000  
Option 3 ID : 264330280002  
Option 4 ID : 264330280001  
Status : Answered  
Chosen Option : 4

Q.11 प्रसिद्ध संगीतकार तानसेन के गुरु कौन थे?

- Ans  1. स्वामी हरिदास  
 2. सूरदास  
 3. रविदास  
 4. कालिदास

Question ID : 26433074861  
Option 1 ID : 264330293535  
Option 2 ID : 264330293532  
Option 3 ID : 264330293533  
Option 4 ID : 264330293534  
Status : Answered  
Chosen Option : 1

Q.12 अचार ज्यादा दिन तक क्यों टिका रहता है?

- Ans  1. अचार में नमक की मात्रा अधिक होने पर जीवाणु और कवक कोशिकाएँ प्लास्मोलाइज़्ड हो जाती हैं।  
 2. अचार में जलाश अचार को खराब होने से बचाती है।  
 3. अचार में फायदेमंद जीवाणु ही पनप सकते हैं।  
 4. अचार को निर्वात में तैयार किया जाता है ताकि उसमें हानिकारक जीवाणु न पनप सकें।

Question ID : 26433089677  
Option 1 ID : 264330352212  
Option 2 ID : 264330352210  
Option 3 ID : 264330352209  
Option 4 ID : 264330352211  
Status : Answered  
Chosen Option : 1

Q.13 उस वर्णक की पहचान कीजिए, जो रक्त को उसका रंग देता है।

- Ans  1. क्लोरोफिल  
 2. हीमोग्लोबिन  
 3. फेरिटिन  
 4. ज़ैथोफिल

Question ID : 26433064753  
Option 1 ID : 264330253605  
Option 2 ID : 264330253607  
Option 3 ID : 264330253606  
Option 4 ID : 264330253604  
Status : Answered  
Chosen Option : 2

Q.14 निम्नलिखित में से किस वर्ष को यूएन (UN) द्वारा अंतर्राष्ट्रीय सूक्ष्म ऋण वर्ष (international year of micro credit) घोषित किया गया था?

- Ans  1. 2002  
 2. 2004  
 3. 2008  
 4. 2005

Question ID : 264330141450  
Option 1 ID : 264330554135  
Option 2 ID : 264330554136  
Option 3 ID : 264330554138  
Option 4 ID : 264330554137  
Status : Not Answered  
Chosen Option : --

Q.15 इंडो-ग्रीक के संबंध में निम्नलिखित कथनों पर विचार करें।

1. सबसे प्रसिद्ध इंडो-ग्रीक शासक मिनांडर था।
2. मिनांडर की पहचान प्रसिद्ध बौद्ध ग्रन्थ मिलिन्दपन्ह में वर्णित राजा मिलिंद के साथ की गई है।
3. मिलिन्दपन्ह में दार्शनिक प्रश्न हैं, जो मिलिंद ने आम्रपाली से पूछे थे।
4. उत्तरो से प्रभावित होकर राजा मिलिंद ने बौद्ध धर्म को अपना धर्म मान लिया। उपर्युक्त में से कौन-से कथन सही हैं।

- Ans
- 1. केवल 1, 2 और 3
  - 2. केवल 3, 2 और 4
  - 3. केवल 1, 3 और 4
  - 4. केवल 1, 2 और 4

Question ID : 264330123784

Option 1 ID : 264330485074

Option 2 ID : 264330485073

Option 3 ID : 264330485075

Option 4 ID : 264330485072

Status : Not Answered

Chosen Option : --

Q.16 मुख्य नहर के जल स्तर के नीचे की कृषि भूमि, \_\_\_\_\_ का निर्माण करती है।

- Ans
- 1. वारबंदी (warebandi)
  - 2. कमांड क्षेत्र (command area)
  - 3. प्रवाह प्रणाली (flow system)
  - 4. लिफ्ट प्रणाली (lift system)

Question ID : 264330163192

Option 1 ID : 264330640080

Option 2 ID : 264330640079

Option 3 ID : 264330640081

Option 4 ID : 264330640082

Status : Not Answered

Chosen Option : --

Q.17 आकाशगंगाओं के बीच की दूरी के संबंध में कौन सा रुझान (trend) पाया गया है?

- Ans
- 1. स्थिर
  - 2. बढ़ते क्रम में
  - 3. घटते क्रम में
  - 4. अनुनमेय

Question ID : 264330113349

Option 1 ID : 264330445483

Option 2 ID : 264330445481

Option 3 ID : 264330445482

Option 4 ID : 264330445484

Status : Not Answered

Chosen Option : --

Q.18 भारतीय संविधान का कौन-सा अनुच्छेद यह शर्त निर्धारित करता है कि राष्ट्रपति, एक बार चुने जाने के बाद, संसद या राज्य विधानमंडल के किसी भी सदन का सदस्य नहीं होगा?

- Ans
- 1. अनुच्छेद 79
  - 2. अनुच्छेद 80
  - 3. अनुच्छेद 59
  - 4. अनुच्छेद 62

Question ID : 264330114495  
Option 1 ID : 264330450067  
Option 2 ID : 264330450068  
Option 3 ID : 264330450065  
Option 4 ID : 264330450066  
Status : Answered  
Chosen Option : 3

Q.19 2011 की जनगणना के अनुसार, कोई भी व्यक्ति, जिसकी आयु \_\_\_\_\_ वर्ष या उससे अधिक है, और जो लिख या पढ़ सकता है, साक्षर माना जाता है।

- Ans
- 1. दस
  - 2. बारह
  - 3. छः
  - 4. सात

Question ID : 264330110656  
Option 1 ID : 264330434901  
Option 2 ID : 264330434904  
Option 3 ID : 264330434903  
Option 4 ID : 264330434902  
Status : Not Answered  
Chosen Option : --

Q.20 सूची I का सूची II से मिलान करें।  
सूची I

- |                            |                |
|----------------------------|----------------|
| a) दूसरी पंचवर्षीय योजना   | i) 1974-1979   |
| b) पांचवीं पंचवर्षीय योजना | ii) 1956-1961  |
| c) आठवीं पंचवर्षीय योजना   | iii) 1992-1997 |

- Ans
- 1. a-i, b-ii, c-iii
  - 2. a-iii, b-i, c-ii
  - 3. a-i, b-iii, c-ii
  - 4. a-ii, b-i, c-iii

Question ID : 264330141495  
Option 1 ID : 264330554315  
Option 2 ID : 264330554317  
Option 3 ID : 264330554318  
Option 4 ID : 264330554316  
Status : Answered  
Chosen Option : 4

Q.21 भारत के संविधान का कौन-सा अनुच्छेद बलात् श्रम (forced labour) को प्रतिषिद्ध करता है?

- Ans
- 1. अनुच्छेद 22
  - 2. अनुच्छेद 20
  - 3. अनुच्छेद 21
  - 4. अनुच्छेद 23

Question ID : 264330130680

Option 1 ID : 264330511833

Option 2 ID : 264330511831

Option 3 ID : 264330511832

Option 4 ID : 264330511834

Status : Answered

Chosen Option : 4

Q.22 बाबर के चार पुत्रों में सबसे बड़ा कौन था?

- Ans
- 1. हिन्दाल
  - 2. अस्करी
  - 3. कामरान
  - 4. हुमायूं

Question ID : 264330109024

Option 1 ID : 264330428375

Option 2 ID : 264330428374

Option 3 ID : 264330428373

Option 4 ID : 264330428376

Status : Answered

Chosen Option : 4

Q.23 निम्नलिखित में से कौन 'प्रार्थना सभा' से संबंधित नहीं था?

- Ans
- 1. आत्माराम पांडुरंग
  - 2. गोविन्द रानाडे
  - 3. आर.जी. भंडारकर
  - 4. मोतीलाल नेहरू

Question ID : 264330165393

Option 1 ID : 264330648653

Option 2 ID : 264330648651

Option 3 ID : 264330648654

Option 4 ID : 264330648652

Status : Answered

Chosen Option : 4

Q.24 निम्नलिखित में से कौन-सी अंतर्राष्ट्रीय टेनिस खिलाड़ी आन्द्रे अगासी (Andre Agassi) की आत्मकथा है?

- Ans
- 1. बिकमिंग
  - 2. मी
  - 3. टू मैनी रीज़न्स टू लिव
  - 4. ओपन : एन ऑटोबायोग्राफी

Question ID : 264330145178

Option 1 ID : 264330568967

Option 2 ID : 264330568970

Option 3 ID : 264330568968

Option 4 ID : 264330568969

Status : Not Answered

Chosen Option : --



Q.25 प्रथम पंचवर्षीय योजना कब समाप्त हुई?

- Ans
- 1. जनवरी 1956
  - 2. फरवरी 1956
  - 3. मार्च 1956
  - 4. दिसंबर 1955

Question ID : 264330145250  
Option 1 ID : 264330569256  
Option 2 ID : 264330569257  
Option 3 ID : 264330569258  
Option 4 ID : 264330569255  
Status : Answered  
Chosen Option : 3

Q.26 निम्नलिखित में से कौन सी पुस्तक बुकर पुरस्कार विजेता किरण देसाई द्वारा लिखी गई है?

- Ans
- 1. ए फाइन बैलेंस
  - 2. द इनहेरिटेन्स ऑफ लॉस
  - 3. शांताराम
  - 4. द इयर ऑफ रनवेज़

Question ID : 26433071482  
Option 1 ID : 264330280353  
Option 2 ID : 264330280355  
Option 3 ID : 264330280354  
Option 4 ID : 264330280352  
Status : Answered  
Chosen Option : 2

Q.27 अर्नस्ट हेकेल (Ernst Haeckel) ने जीवित रूपों की इकाई का वर्णन करने के लिए 'इकोलॉजी (ecology)' शब्द किस वर्ष में पेश किया था?

- Ans
- 1. 1884
  - 2. 1888
  - 3. 1887
  - 4. 1866

Question ID : 264330145194  
Option 1 ID : 264330569031  
Option 2 ID : 264330569034  
Option 3 ID : 264330569033  
Option 4 ID : 264330569032  
Status : Not Answered  
Chosen Option : --

Q.28 प्रसिद्ध वादक पंडित राम नारायण निम्नलिखित में से किस वाद्य यंत्र को बजाने के लिए जाने जाते हैं?

- Ans
- 1. सारंगी
  - 2. घटम्
  - 3. सरोद
  - 4. वीणा

Question ID : 264330145168  
Option 1 ID : 264330568928  
Option 2 ID : 264330568930  
Option 3 ID : 264330568927  
Option 4 ID : 264330568929  
Status : Answered  
Chosen Option : 2

Q.29 निम्नलिखित में से कौन-से विकल्प में समांगी मिश्रण है?

- Ans
- 1. विलयन, कोलॉइड , निलंबन, दूध, दूधपेस्ट, लवणीय जल, पीतल
  - 2. कोलॉइड, निलंबन, दूध, दूधपेस्ट
  - 3. विलयन, लवणीय जल, पीतल
  - 4. विलयन, कोलॉइड , दूध, दूधपेस्ट, लवणीय जल, पीतल

Question ID : 264330169308  
Option 1 ID : 264330664011  
Option 2 ID : 264330664014  
Option 3 ID : 264330664013  
Option 4 ID : 264330664012  
Status : Not Answered  
Chosen Option : --

Q.30 कुचिपुड़ी की उत्पत्ति निम्नलिखित में से किस राज्य में हुई?

- Ans
- 1. तमिलनाडु
  - 2. केरल
  - 3. गुजरात
  - 4. आंध्र प्रदेश

Question ID : 264330164791  
Option 1 ID : 264330646293  
Option 2 ID : 264330646294  
Option 3 ID : 264330646291  
Option 4 ID : 264330646292  
Status : Answered  
Chosen Option : 4

Q.31 भारत के संविधान की किस अनुसूची में दल-बदल के आधार पर विधायक की निरर्हता के प्रावधान हैं?

- Ans
- 1. अनुसूची-X
  - 2. अनुसूची-XI
  - 3. अनुसूची-IX
  - 4. अनुसूची-VIII

Question ID : 264330130474  
Option 1 ID : 264330511008  
Option 2 ID : 264330511009  
Option 3 ID : 264330511007  
Option 4 ID : 264330511010  
Status : Answered  
Chosen Option : 1

Q.32 निम्नलिखित में से किसे भारत के भूआकृतिक विभाजन के तहत समूहीकृत नहीं किया जा सकता है?

- Ans
- 1. अप्लेशियन पर्वत
  - 2. हिमालय
  - 3. द्वीप
  - 4. भारतीय मरूस्थल

Question ID : 264330163235  
Option 1 ID : 264330640251  
Option 2 ID : 264330640252  
Option 3 ID : 264330640253  
Option 4 ID : 264330640254  
Status : Not Answered  
Chosen Option : --

Q.33 फुटबॉल में, जब किसी खिलाड़ी ने फाउल किया होता है, तब विपक्षी खिलाड़ी को एक किक पारितोषिक स्वरूप प्रदान की जाती है। उस किक को क्या कहते हैं?

- Ans
- 1. फ्री किक
  - 2. बाईसाइकिल किक
  - 3. वाइड किक
  - 4. गोल किक

Question ID : 26433092339  
Option 1 ID : 264330362655  
Option 2 ID : 264330362656  
Option 3 ID : 264330362653  
Option 4 ID : 264330362654  
Status : Answered  
Chosen Option : 1

Q.34 निम्नलिखित में से कौन-सा एक प्राथमिक एरिलऐमीन (arylamine) है, जिसमें बेंजीन हाइड्रोजन में से किसी एक के स्थान पर एक एमिनो क्रियात्मक समूह (amino functional group) प्रतिस्थापित हो जाता है?

- Ans
- 1. पिरिडीन (Pyridine)
  - 2. टोल्यूडीन (Toluidine)
  - 3. किनोलिन (Quinoline)
  - 4. एनिलीन (Aniline)

Question ID : 264330110055  
Option 1 ID : 264330432497  
Option 2 ID : 264330432499  
Option 3 ID : 264330432498  
Option 4 ID : 264330432500  
Status : Not Answered  
Chosen Option : --

Q.35 दक्कन के पठार (Deccan Plateau) की काली मिट्टी में निम्नलिखित में से किस खनिज की कमी है?

- Ans
- 1. चूना
  - 2. फॉस्फोरस
  - 3. पोटैश
  - 4. आयरन

Question ID : 264330119790  
Option 1 ID : 264330469438  
Option 2 ID : 264330469435  
Option 3 ID : 264330469436  
Option 4 ID : 264330469437  
Status : Not Answered  
Chosen Option : --

Q.36 निम्नलिखित में से किस राज्य ने जनजातियों के बीच अंतःक्रियता (interaction) को प्रोत्साहित करने और राज्य की सांस्कृतिक विरासत के संवर्धन हेतु हॉर्नबिल महोत्सव की शुरुआत की?

- Ans
- 1. असम
  - 2. छत्तीसगढ़
  - 3. नागालैंड
  - 4. पश्चिम बंगाल

Question ID : 26433054216  
Option 1 ID : 264330211850  
Option 2 ID : 264330211848  
Option 3 ID : 264330211849  
Option 4 ID : 264330211851  
Status : Answered  
Chosen Option : 3

Q.37 चापचर कुट ल्यौहार मुख्य रूप से \_\_\_\_\_ में मनाया जाता है।

- Ans
- 1. मेघालय
  - 2. मणिपुर
  - 3. मिज़ोरम
  - 4. नागालैंड

Question ID : 264330164807  
Option 1 ID : 264330646355  
Option 2 ID : 264330646358  
Option 3 ID : 264330646356  
Option 4 ID : 264330646357  
Status : Answered  
Chosen Option : 3

Q.38 किस वैज्ञानिक ने एक अकार्बनिक यौगिक, अमोनियम साइनेट से एक कार्बनिक यौगिक, यूरिया का संश्लेषण किया?

- Ans
- 1. एफ. वोहलर (F Wohler)
  - 2. बर्थेलोट (Berthelot)
  - 3. कोल्बे (Kolbe)
  - 4. बर्जीलियस (Berzelius)

Question ID : 264330145224  
Option 1 ID : 264330569152  
Option 2 ID : 264330569151  
Option 3 ID : 264330569153  
Option 4 ID : 264330569154  
Status : Not Answered  
Chosen Option : --

Q.39 मंदिर और उसकी स्थिति वाले राज्य के सही संयोजन का चयन कीजिए।

- Ans
- 1. महाकालेश्वर ज्योतिर्लिंग-उत्तराखंड
  - 2. सोमनाथ ज्योतिर्लिंग मंदिर-महाराष्ट्र
  - 3. कामाख्या मंदिर-असम
  - 4. जगन्नाथ मंदिर-पश्चिम बंगाल

Question ID : 264330141822  
Option 1 ID : 264330555608  
Option 2 ID : 264330555610  
Option 3 ID : 264330555607  
Option 4 ID : 264330555609  
Status : Answered  
Chosen Option : 3

Q.40 संविधान का कौन-सा अनुच्छेद स्पष्ट करता है कि 'आरक्षण (reservation)' जैसी नीतियाँ समानता के अधिकार का उल्लंघन नहीं है?

- Ans
- 1. अनुच्छेद 15 (2)
  - 2. अनुच्छेद 14 (1)
  - 3. अनुच्छेद 21
  - 4. अनुच्छेद 16 (4)

Question ID : 264330116396  
Option 1 ID : 264330457670  
Option 2 ID : 264330457669  
Option 3 ID : 264330457672  
Option 4 ID : 264330457671  
Status : Not Answered  
Chosen Option : --

Q.41 भारत के संविधान के अनुच्छेद 361 के अनुसार, निम्नलिखित में से कौन अपने पद की शक्तियों के प्रयोग और कर्तव्यों के पालन के लिए किसी भी अदालत के प्रति उत्तरदाई नहीं होगा?

- Ans
- 1. मुख्यमंत्री
  - 2. प्रधानमंत्री
  - 3. सचिव
  - 4. राज्यपाल

Question ID : 264330145271  
Option 1 ID : 264330569340  
Option 2 ID : 264330569339  
Option 3 ID : 264330569342  
Option 4 ID : 264330569341  
Status : Answered  
Chosen Option : 4

Q.42 वर्ल्ड वेटलिफ्टिंग फेडरेशन द्वारा लंदन, यू.के. में पहली विश्व भारोत्तोलन चैंपियनशिप (World Weightlifting Championship) कब आयोजित की गई थी?

- Ans
- 1. मार्च 2000
  - 2. मार्च 1991
  - 3. मार्च 1895
  - 4. मार्च 1891

Question ID : 26433059423  
Option 1 ID : 264330232561  
Option 2 ID : 264330232560  
Option 3 ID : 264330232562  
Option 4 ID : 264330232563  
Status : Not Answered  
Chosen Option : --

Q.43 क्रिकेट में एक ओवर में कितनी गेंदें होती हैं?

Ans  1. 5

2. 6

3. 4

4. 7

Question ID : 264330118905

Option 1 ID : 264330466276

Option 2 ID : 264330466277

Option 3 ID : 264330466275

Option 4 ID : 264330466278

Status : Answered

Chosen Option : 2

Q.44 एल्डिहाइड समूह का रासायनिक सूत्र क्या है?

Ans  1. -COOH

2. -OH

3. -CH<sub>2</sub>O

4. -CHO

Question ID : 264330145223

Option 1 ID : 264330569149

Option 2 ID : 264330569148

Option 3 ID : 264330569150

Option 4 ID : 264330569147

Status : Answered

Chosen Option : 4

Q.45 1773 के रेगुलेटिंग एक्ट के तहत, किंग-इन-काउंसिल ने निम्नलिखित में से किस स्थान पर सर्वोच्च न्यायालय की स्थापना की?

Ans  1. मद्रास

2. बॉम्बे

3. दिल्ली

4. कलकत्ता

Question ID : 26433099166

Option 1 ID : 264330389280

Option 2 ID : 264330389278

Option 3 ID : 264330389277

Option 4 ID : 264330389279

Status : Answered

Chosen Option : 4

Q.46 लैंडहोल्डर्स सोसाइटी (Landholder's Society) की स्थापना किस वर्ग के हितों की देखभाल के लिए की गई थी?

Ans  1. किसान

2. जमींदार

3. श्रमिक

4. व्यापारी

Question ID : 264330112182

Option 1 ID : 264330440815

Option 2 ID : 264330440814

Option 3 ID : 264330440813

Option 4 ID : 264330440816

Status : Answered

Chosen Option : 2

Q.47 1950 के दशक के मध्य में सर्वप्रथम बार किसने राइबोसोम (ribosomes) का अवलोकन किया, और उन्हें कोशिकाद्रव्य में छोटे कणों के रूप में वर्णित किया, जो अधिमाम्य रूप से अन्तर्द्रव्यी जालिका झिल्ली (endoplasmic reticulum membrane) से जुड़े थे?

- Ans
- 1. कार्ल जीस (Carl Zeiss)
  - 2. अल्बर्ट कोलिकर (Albert Kolliker)
  - 3. जॉर्ज ई. पलाडे (George E Palade)
  - 4. अर्न्स्ट अब्बे (Ernst Abbe)

Question ID : 264330145198  
Option 1 ID : 264330569048  
Option 2 ID : 264330569050  
Option 3 ID : 264330569049  
Option 4 ID : 264330569047  
Status : Not Answered  
Chosen Option : --

Q.48 निम्नलिखित में से गलत कथन का चयन कीजिए।

- Ans
- 1. तमिलनाडु तट जैसे कुछ हिस्सों में अधिकांश वर्षा अक्टूबर और नवंबर के दौरान होती है।
  - 2. देश के अधिकांश भागों में जून से सितम्बर तक वर्षा होती है।
  - 3. उत्तरी मैदानी भागों में सामान्यतः पूर्व से पश्चिम की ओर वर्षा में वृद्धि होती है।
  - 4. मेघालय में 400 cm से अधिक वार्षिक वर्षा होती है।

Question ID : 264330169313  
Option 1 ID : 264330664033  
Option 2 ID : 264330664032  
Option 3 ID : 264330664034  
Option 4 ID : 264330664031  
Status : Not Answered  
Chosen Option : --

Q.49 कायाकल्प और शहरी परिवर्तन के लिए अटल मिशन (AMRUT) योजना के तहत कितने शहर शामिल हैं?

- Ans
- 1. 500
  - 2. 200
  - 3. 400
  - 4. 300

Question ID : 26433064567  
Option 1 ID : 264330252860  
Option 2 ID : 264330252863  
Option 3 ID : 264330252861  
Option 4 ID : 264330252862  
Status : Not Answered  
Chosen Option : --

Q.50 प्रधान मंत्री रोजगार सृजन कार्यक्रम (PMEGP) कब शुरू किया गया था?

- Ans  1. 2009  
 2. 2012  
 3. 2006  
 4. 2008

Question ID : 264330157101  
Option 1 ID : 264330615775  
Option 2 ID : 264330615778  
Option 3 ID : 264330615776  
Option 4 ID : 264330615777  
Status : Not Answered  
Chosen Option : --

Section : Quantitative Aptitude

Q.1 AB एक वृत्त की जीवा है, जिसकी त्रिज्या 1.7 cm है। यदि वृत्त के केंद्र से इस जीवा AB की दूरी 0.8 cm है, तो जीवा AB की लंबाई (cm में) कितनी है?

- Ans  1. 1  
 2. 2  
 3. 4  
 4. 3

Question ID : 264330165692  
Option 1 ID : 264330649847  
Option 2 ID : 264330649848  
Option 3 ID : 264330649850  
Option 4 ID : 264330649849  
Status : Answered  
Chosen Option : 4

Q.2  $\Delta PQR$  में,  $\angle P=90^\circ$ ,  $\angle R=47^\circ$  और  $PS \perp QR$  हैं।  $\angle QPS$  का मान ज्ञात कीजिए।

- Ans  1.  $47^\circ$   
 2.  $40^\circ$   
 3.  $43^\circ$   
 4.  $45^\circ$

Question ID : 264330158285  
Option 1 ID : 264330620502  
Option 2 ID : 264330620499  
Option 3 ID : 264330620500  
Option 4 ID : 264330620501  
Status : Answered  
Chosen Option : 1



Q.3 एक वस्तु पर, ₹26,000 के अंकित मूल्य पर 18% की छूट है। अतिरिक्त सीजन छूट देने के बाद, वस्तु ₹16,000 में बेची जाती है। सीजन छूट का मान दो दशमलव स्थानों तक ज्ञात कीजिए।

- Ans
- ✗ 1. 24.65%
  - ✓ 2. 24.95%
  - ✗ 3. 35.25%
  - ✗ 4. 22.45%

Question ID : 264330104407

Option 1 ID : 264330409930

Option 2 ID : 264330409931

Option 3 ID : 264330409932

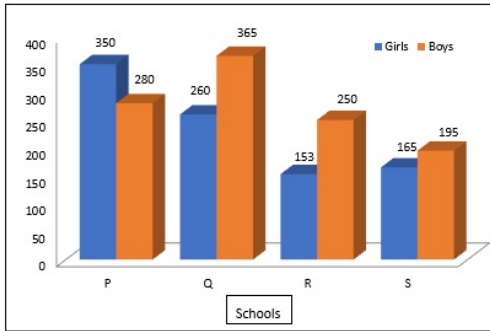
Option 4 ID : 264330409929

Status : Answered

Chosen Option : 3

Q.4 दिए गए आलेख का अध्ययन कीजिए और नीचे दिए गए प्रश्न का उत्तर दीजिए।

आलेख, चार अलग-अलग स्कूलों में कक्षा 5 में पढ़ने वाले लड़कों और लड़कियों की संख्या से संबंधित डेटा दिखाता है।



Girl = लड़कियां, Boys = लड़कें, Schools = स्कूल

स्कूल P और Q में एकसाथ मिलाकर पढ़ने वाले लड़कों की कुल संख्या और उन्हीं स्कूलों में एकसाथ मिलाकर पढ़ने वाली लड़कियों की कुल संख्या के बीच कितना अंतर है?

- Ans
- ✓ 1. 35
  - ✗ 2. 45
  - ✗ 3. 38
  - ✗ 4. 40

Question ID : 264330158275

Option 1 ID : 264330620459

Option 2 ID : 264330620462

Option 3 ID : 264330620460

Option 4 ID : 264330620461

Status : Answered

Chosen Option : 1

Q.5 यदि एक लंब वृत्तीय शंकु की आधार त्रिज्या और ऊंचाई में 10% की वृद्धि की जाती है, तो इसके आयतन में होने वाली प्रतिशत वृद्धि ज्ञात कीजिए।

- Ans
- ✓ 1. 33.1%
  - ✗ 2. 22.1%
  - ✗ 3. 30.2%
  - ✗ 4. 20.2%

Question ID : 264330103640

Option 1 ID : 264330406868

Option 2 ID : 264330406866

Option 3 ID : 264330406867

Option 4 ID : 264330406865

Status : Answered

Chosen Option : 1

Q.6 यदि  $\cos A = \frac{1}{11}$  है, तो  $\cot A$  का मान ज्ञात कीजिए।

- Ans
- ✓ 1.  $\frac{1}{2\sqrt{30}}$
  - ✗ 2.  $2\sqrt{30}$
  - ✗ 3.  $\frac{11}{2\sqrt{30}}$
  - ✗ 4.  $\frac{2\sqrt{30}}{11}$

Question ID : 264330158291

Option 1 ID : 264330620524

Option 2 ID : 264330620525

Option 3 ID : 264330620523

Option 4 ID : 264330620526

Status : Answered

Chosen Option : 1

Q.7 जिमी को 88 km की दूरी 16 घंटे में पूरी करनी है। यदि वह आधी यात्रा  $\frac{3}{4}$  समय में तय करती है, तो शेष दूरी को शेष समय में तय करने के लिए उसकी चाल क्या होनी चाहिए?

- Ans
- ✗ 1. 10 km/h
  - ✗ 2. 12 km/h
  - ✓ 3. 11 km/h
  - ✗ 4. 13 km/h

Question ID : 26433082849

Option 1 ID : 264330325230

Option 2 ID : 264330325231

Option 3 ID : 264330325229

Option 4 ID : 264330325232

Status : Answered

Chosen Option : 3

Q.8 वह छोटी से छोटी संख्या ज्ञात कीजिए, जिसे 4, 9, 12 और 15 से विभाजित करने पर प्रत्येक स्थिति में शेषफल 3 प्राप्त होता है।

Ans  1. 183

2. 180

3. 360

4. 193

Question ID : 26433063994

Option 1 ID : 264330250570

Option 2 ID : 264330250571

Option 3 ID : 264330250569

Option 4 ID : 264330250568

Status : Answered

Chosen Option : 2

Q.9  $16\operatorname{cosec}^2\theta + 25\sin^2\theta$  का न्यूनतम मान ज्ञात कीजिए।

Ans  1. 42

2. 38

3. 40

4. 35

Question ID : 264330145125

Option 1 ID : 264330568758

Option 2 ID : 264330568756

Option 3 ID : 264330568757

Option 4 ID : 264330568755

Status : Not Answered

Chosen Option : --

Q.10 36 समान रूप से दक्ष कर्मचारी 48 दिनों में 25 एक जैसी दीवारों को पेंट कर सकते हैं। ऐसे 45 कर्मचारी कितने दिनों में ऐसी 60 दीवारों को पेंट कर सकते हैं?

Ans  1. 92.36

2. 91.96

3. 91.16

4. 92.16

Question ID : 264330103289

Option 1 ID : 264330405463

Option 2 ID : 264330405461

Option 3 ID : 264330405462

Option 4 ID : 264330405464

Status : Answered

Chosen Option : 4

Q.11 किसी व्यक्ति का मासिक वेतन ₹50,000 है। वह अपने वेतन का 40% घरेलू खर्च पर, 25% किराए पर, और 15% परिवहन पर खर्च करता है, और शेष राशि की बचत करता है। उसकी वार्षिक बचत कितनी है?

- Ans
- 1. ₹1,10,000
  - 2. ₹1,20,000
  - 3. ₹1,00,000
  - 4. ₹90,000

Question ID : 264330157713  
Option 1 ID : 264330618213  
Option 2 ID : 264330618214  
Option 3 ID : 264330618212  
Option 4 ID : 264330618211  
Status : Answered  
Chosen Option : 2

Q.12 यदि 45 और 55 के महत्तम समापवर्तक (HCF) को  $55 \times 5 + 45m$  के रूप में व्यक्त किया जा सकता है, तो  $m$  का मान क्या है?

- Ans
- 1. -5
  - 2. -6
  - 3. 6
  - 4. 5

Question ID : 26433074253  
Option 1 ID : 264330291132  
Option 2 ID : 264330291134  
Option 3 ID : 264330291135  
Option 4 ID : 264330291133  
Status : Answered  
Chosen Option : 2

Q.13 त्रिभुज LMN में, OP, भुजा MN के समानांतर खींचा गया एक रेखाखंड है। OP, भुजाओं LM और LN को क्रमशः O और P पर प्रतिच्छेदित करता है। यदि  $LM = 15$  cm,  $OM = 4$  cm और  $PN = 5$  cm है, तो भुजा LN की लंबाई (cm में) कितनी है?

- Ans
- 1. 18.75
  - 2. 22.75
  - 3. 16.25
  - 4. 20.25

Question ID : 264330165690  
Option 1 ID : 264330649840  
Option 2 ID : 264330649842  
Option 3 ID : 264330649839  
Option 4 ID : 264330649841  
Status : Answered  
Chosen Option : 1

Q.14 12, 18 और 27 का लघुत्तम समापवर्त्य क्या है?

- Ans  1. 27  
 2. 216  
 3. 54  
 4. 108

Question ID : 26433066158  
Option 1 ID : 264330259165  
Option 2 ID : 264330259167  
Option 3 ID : 264330259164  
Option 4 ID : 264330259166  
Status : Answered  
Chosen Option : 4

Q.15 दालों का क्रय मूल्य, विक्रय मूल्य से 12% कम है। एक खराब तौल मशीन का उपयोग करके दुकानदार 25% लाभ अर्जित करने में सक्षम है। दोषपूर्ण मशीन वास्तविक वजन की तुलना में कितने प्रतिशत अधिक वजन दिखाती है (निकटतम पूर्णांक तक पूर्णांकित)?

- Ans  1. 10%  
 2. 13%  
 3. 15%  
 4. 14%

Question ID : 264330102068  
Option 1 ID : 264330400777  
Option 2 ID : 264330400779  
Option 3 ID : 264330400780  
Option 4 ID : 264330400778  
Status : Answered  
Chosen Option : 1

Q.16 विजय 42 m कपड़ा बेचकर 7 m कपड़े के विक्रय मूल्य के बराबर लाभ प्राप्त करता है। प्रतिशत लाभ ज्ञात कीजिए।

- Ans  1. 25%  
 2. 15%  
 3. 20%  
 4. 30%

Question ID : 264330131518  
Option 1 ID : 264330515177  
Option 2 ID : 264330515175  
Option 3 ID : 264330515176  
Option 4 ID : 264330515178  
Status : Answered  
Chosen Option : 3

Q.17 यदि  $\operatorname{cosec} A + \cot A = 3$ , जहाँ  $0 \leq A \leq 90^\circ$  है, तो  $\cos A$  का मान क्या होगा?

- Ans
- 1.  $\frac{3}{4}$
  - 2.  $\frac{3}{5}$
  - 3.  $\frac{2}{5}$
  - 4.  $\frac{4}{5}$

Question ID : 264330157759

Option 1 ID : 264330618397

Option 2 ID : 264330618395

Option 3 ID : 264330618398

Option 4 ID : 264330618396

Status : Answered

Chosen Option : 4

Q.18 यदि किसी वृत्त का परिमाण 13.2 cm है, तो वृत्त की त्रिज्या \_\_\_\_\_ है।

$(\pi = \frac{22}{7}$  लीजिए)

- Ans
- 1. 2.1 cm
  - 2. 6.6 cm
  - 3. 4.2 cm
  - 4. 3.3 cm

Question ID : 264330165443

Option 1 ID : 264330648852

Option 2 ID : 264330648853

Option 3 ID : 264330648851

Option 4 ID : 264330648854

Status : Answered

Chosen Option : 1

Q.19  $x^3y$  और  $xy^3$  का मध्यानुपाती (mean proportion) ज्ञात कीजिए।

- Ans
- 1.  $xy$
  - 2.  $x^3y^3$
  - 3.  $x^4y^4$
  - 4.  $x^2y^2$

Question ID : 264330145074

Option 1 ID : 264330568551

Option 2 ID : 264330568553

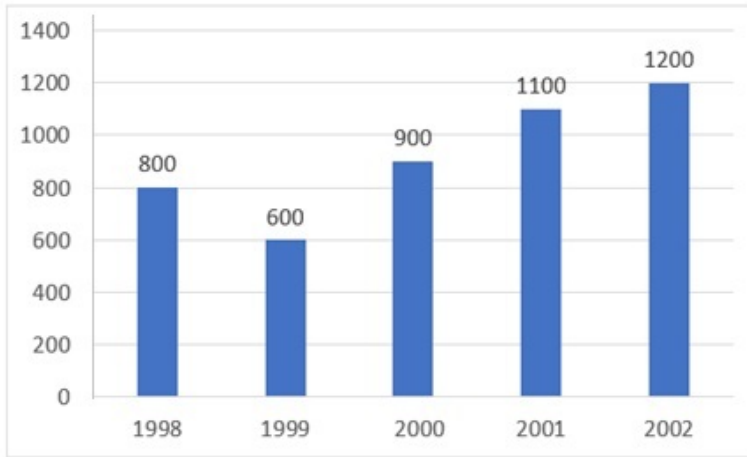
Option 3 ID : 264330568554

Option 4 ID : 264330568552

Status : Answered

Chosen Option : 4

Q.20 दिए गए बार-ग्राफ का अध्ययन कीजिए, और दिए गए प्रश्न का उत्तर दीजिए।  
निम्न बार-ग्राफ 1998 से 2002 तक किसी कारखाने में उत्पादित साइकिलों की संख्या को दर्शाता है।



1998-2002 के दौरान कारखाने में प्रति वर्ष उत्पादित साइकिलों की औसत संख्या कितनी थी?

- Ans
- 1. 940
  - 2. 880
  - 3. 920
  - 4. 960

Question ID : 264330157734

Option 1 ID : 264330618296

Option 2 ID : 264330618298

Option 3 ID : 264330618297

Option 4 ID : 264330618295

Status : Answered

Chosen Option : 3

Q.21

$\sqrt{\frac{1 + \sin A}{1 - \sin A}}$  का मान क्या होगा?

- Ans
- 1.  $\sec A - \tan A$
  - 2.  $\operatorname{cosec} A + \cot A$
  - 3.  $\sec A + \tan A$
  - 4.  $\operatorname{cosec} A - \cot A$

Question ID : 264330157754

Option 1 ID : 264330618376

Option 2 ID : 264330618377

Option 3 ID : 264330618375

Option 4 ID : 264330618378

Status : Answered

Chosen Option : 3

Q.22 350m लंबी एक मालगाड़ी 1250m लंबी सुरंग को 80 सेकंड में पार करती है। मालगाड़ी की चाल कितनी है?

- Ans
- 1. 64 km/h
  - 2. 78 km/h
  - 3. 72 km/h
  - 4. 56 km/h

Question ID : 264330145068

Option 1 ID : 264330568529

Option 2 ID : 264330568530

Option 3 ID : 264330568528

Option 4 ID : 264330568527

Status : Answered

Chosen Option : 3

Q.23 दी गई तालिका का अध्ययन करें, और नीचे दिए गए प्रश्न का उत्तर दें।  
निम्न तालिका पाँच अलग-अलग संस्थाओं A, B, C, D और E में विभिन्न विभागों में कर्मचारियों की संख्या को दर्शाती है।

विभाग ↓ संस्था →	A	B	C	D	E
एचआर	1050	1015	976	888	1004
वित्त	1017	960	786	1025	963
विपणन	1382	1384	1275	1300	1290
उत्पादन	1542	1545	4550	1570	1580
लेखा	786	745	801	800	735
विधि	48	54	36	30	53
कुल	5825	5703	5424	5613	5625

प्रत्येक संस्था में किस विभाग में कर्मचारियों की संख्या न्यूनतम है?

- Ans
- 1. लेखा
  - 2. विधि
  - 3. विपणन
  - 4. उत्पादन

Question ID : 264330157722

Option 1 ID : 264330618249

Option 2 ID : 264330618250

Option 3 ID : 264330618247

Option 4 ID : 264330618248

Status : Answered

Chosen Option : 2



Q.24 संजय और रोहन एक कार्य को क्रमशः 8 दिन और 12 दिन में पूरा कर सकते हैं। संजय से आरंभ करके, वे बारी-बारी से एक-एक दिन छोड़कर कार्य करते हैं। कार्य कितने दिनों में पूरा होगा?

- Ans
- ✓ 1.  $9\frac{1}{2}$
  - ✗ 2.  $9\frac{1}{3}$
  - ✗ 3.  $8\frac{1}{2}$
  - ✗ 4.  $9\frac{2}{3}$

Question ID : 26433087393

Option 1 ID : 264330343209

Option 2 ID : 264330343210

Option 3 ID : 264330343212

Option 4 ID : 264330343211

Status : Answered

Chosen Option : 1

Q.25 वह छोटी से छोटी पूर्ण वर्ग संख्या कौन-सी है, जो 4, 6, 9, 12 और 15 से पूर्णतः विभाज्य है?

- Ans
- ✗ 1. 784
  - ✗ 2. 961
  - ✓ 3. 900
  - ✗ 4. 841

Question ID : 26433073067

Option 1 ID : 264330286463

Option 2 ID : 264330286462

Option 3 ID : 264330286461

Option 4 ID : 264330286460

Status : Answered

Chosen Option : 3

Q.26 दो उम्मीदवारों के बीच हुए एक चुनाव में जीतने और हारने वाले उम्मीदवारों के बीच 2,500 मतों का अंतर था। जीतने वाले उम्मीदवार को 75% मत मिले। चुनाव में अमान्य मतों की संख्या शून्य थी। हारने वाले उम्मीदवार को मिले मतों की कुल संख्या कितनी थी?

- Ans
- ✗ 1. 3750
  - ✓ 2. 1250
  - ✗ 3. 1875
  - ✗ 4. 5000

Question ID : 264330145061

Option 1 ID : 264330568501

Option 2 ID : 264330568499

Option 3 ID : 264330568500

Option 4 ID : 264330568502

Status : Answered

Chosen Option : 2

Q.27 दो उम्मीदवारों के बीच हुए एक चुनाव में, 30% मतदाताओं ने मतदान नहीं किया। डाले गए मतों में से 20% मत अमान्य पाए गए। जीतने वाले उम्मीदवार को वैध मतों के 64% मत प्राप्त हुए, और वह 3136 मतों के साथ बहुमत से विजयी हुआ। मतदाता सूची में नामांकित मतदाताओं की संख्या ज्ञात करें।

- Ans
- 1. 30000
  - 2. 25000
  - 3. 24000
  - 4. 20000

Question ID : 264330103392  
Option 1 ID : 264330405876  
Option 2 ID : 264330405874  
Option 3 ID : 264330405875  
Option 4 ID : 264330405873  
Status : Not Answered  
Chosen Option : --

Q.28 चक्रवृद्धि ब्याज पर दी गई एक राशि, 2 वर्षों में ₹1,200 और 3 वर्षों में ₹1,260 हो जाती है, जबकि ब्याज की गणना वार्षिक चक्रवृद्धि आधार पर की जाती है। चक्रवृद्धि ब्याज की वार्षिक दर कितनी है?

- Ans
- 1. 4%
  - 2. 3%
  - 3. 5%
  - 4. 6%

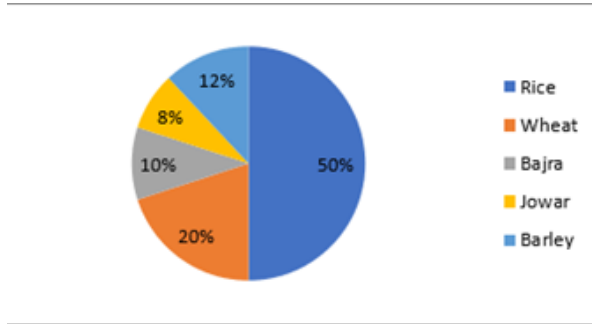
Question ID : 264330145059  
Option 1 ID : 264330568492  
Option 2 ID : 264330568491  
Option 3 ID : 264330568493  
Option 4 ID : 264330568494  
Status : Answered  
Chosen Option : 3

Q.29 एक अर्धगोले का व्यास, 4 cm लंबाई और 3 cm चौड़ाई वाले आयत के विकर्ण के बराबर है। अर्धगोले का संपूर्ण पृष्ठीय क्षेत्रफल ( $\text{cm}^2$  में) ज्ञात कीजिए।

- Ans
- 1.  $\frac{50\pi}{4}$
  - 2.  $\frac{75\pi}{4}$
  - 3.  $25\pi$
  - 4.  $\frac{25\pi}{4}$

Question ID : 264330145108  
Option 1 ID : 264330568689  
Option 2 ID : 264330568688  
Option 3 ID : 264330568690  
Option 4 ID : 264330568687  
Status : Answered  
Chosen Option : 2

Q.30 दिया गया पाई चार्ट विभिन्न खाद्य फसलों के अंतर्गत भूमि के वितरण को दर्शाता है। इन खाद्य फसलों पर निवेश किया गया व्यय ₹25,000 प्रति वर्ष है। पाई चार्ट का ध्यानपूर्वक अध्ययन कीजिए, और निम्नलिखित प्रश्न का उत्तर दीजिए।



Rice = चावल

Wheat = गेहूँ

Bajra = बाजरा

Jowar = ज्वार

Barley = जौ

चावल और जौ में निवेश किया गया व्यय, गेहूँ और बाजरा में निवेश किए गए व्यय के कितने प्रतिशत के बराबर है (दशमलव के 2 स्थानों तक पूर्णांकित कीजिए)?

Ans ✓ 1. 206.66%

✗ 2. 206.55%

✗ 3. 260.66%

✗ 4. 260.55%

Question ID : 264330165410

Option 1 ID : 264330648722

Option 2 ID : 264330648720

Option 3 ID : 264330648721

Option 4 ID : 264330648719

Status : Answered

Chosen Option : 1

Q.31 दो पाइप एक टंकी को क्रमशः 12 घंटे और 16 घंटे में भर सकते हैं। पाइपों को एक साथ खोल दिया जाता है, और यह पाया जाता है कि टंकी की तली में एक रिसाव के कारण, टंकी को भरने में 90 मिनट अधिक लगते हैं। इस रिसाव द्वारा पूरी तरह से भरे टैंक को खाली करने में कितना समय लगेगा?

Ans ✗ 1.  $39\frac{13}{49}$  h

✓ 2.  $38\frac{10}{49}$  h

✗ 3.  $36\frac{29}{49}$  h

✗ 4.  $37\frac{15}{49}$  h

Question ID : 264330122993

Option 1 ID : 264330482037

Option 2 ID : 264330482036

Option 3 ID : 264330482038

Option 4 ID : 264330482035

Status : Not Answered

Chosen Option : --

Q.32 एक वाहन अपनी सामान्य चाल से एक चौथाई चाल से चल रहा है, और उसे अपने गंतव्य तक पहुंचने में 45 मिनट का अतिरिक्त समय लगता है। उसी दूरी को तय करने हेतु इसका सामान्य समय \_\_\_\_\_ है।

- Ans
- 1. 10 मिनट
  - 2. 20 मिनट
  - 3. 15 मिनट
  - 4. 30 मिनट

Question ID : 264330103740

Option 1 ID : 264330407265

Option 2 ID : 264330407267

Option 3 ID : 264330407266

Option 4 ID : 264330407268

Status : Answered

Chosen Option : 3

Q.33 निम्नलिखित बार ग्राफ में 4 वर्षों में तीन ब्रांडों (P, Q, R) के दूध उत्पादन (मिलियन टन में) का विवरण दर्शाया गया है:



Milk production (in tons) = दूध उत्पादन (टन में) Brand P = ब्रांड P

Brand Q = ब्रांड Q Brand R = ब्रांड R

4 वर्षों की अवधि में प्रति वर्ष दूध का औसत उत्पादन (मिलियन टन में) कितना था?

- Ans
- 1. 70
  - 2. 50
  - 3. 30
  - 4. 90

Question ID : 264330158396

Option 1 ID : 264330620945

Option 2 ID : 264330620944

Option 3 ID : 264330620943

Option 4 ID : 264330620946

Status : Answered

Chosen Option : 4

Q.34 यदि  $1\frac{1}{3} \div \frac{2}{5} \times \frac{x}{5} = 1\frac{1}{4} \times \frac{2}{3} \div \frac{1}{6}$ , तो  $x$  का मान \_\_\_\_\_ होगा।

- Ans  1. 7.0  
 2. 7.5  
 3. 5.5  
 4. 15

Question ID : 26433063986  
Option 1 ID : 264330250539  
Option 2 ID : 264330250536  
Option 3 ID : 264330250538  
Option 4 ID : 264330250537  
Status : Answered  
Chosen Option : 2

Q.35 दी गई तालिका का अध्ययन कीजिए और नीचे दिए गए प्रश्न का उत्तर दीजिए।  
तालिका गरीबी रेखा से नीचे चार राज्यों की प्रतिशत जनसंख्या तथा पुरुष और महिला का अनुपात दर्शाती है।

राज्य	गरीबी रेखा से नीचे जनसंख्या का प्रतिशत	पुरुष और महिला का अनुपात	
		गरीबी रेखा से नीचे	गरीबी रेखा से ऊपर
		पुरुष : महिला	पुरुष : महिला
P	28	3 : 2	7 : 3
Q	15	4 : 7	6 : 5
R	24	5 : 3	3 : 3
S	13	2 : 5	1 : 3

यदि राज्य R की कुल जनसंख्या 26,000 है, तो राज्य R में गरीबी रेखा से ऊपर महिलाओं की संख्या कितनी है?

- Ans  1. 9,780  
 2. 9,560  
 3. 9,950  
 4. 9,880

Question ID : 264330158261  
Option 1 ID : 264330620404  
Option 2 ID : 264330620403  
Option 3 ID : 264330620406  
Option 4 ID : 264330620405  
Status : Not Answered  
Chosen Option : --

Q.36 दो मिश्रणों A और B की संरचनाएं इस प्रकार हैं:  
मिश्रण A में कॉपर और टिन का अनुपात 1 : 2 है  
मिश्रण B में कॉपर और टिन का अनुपात 1 : 3 है  
यदि मिश्रण A और B की समान मात्राओं का उपयोग करके मिश्रण C बनाया जाता है, तो मिश्रण C में कॉपर और टिन का अनुपात ज्ञात करें।

- Ans
- 1. 7:12
  - 2. 2:5
  - 3. 7:17
  - 4. 1:5

Question ID : 264330104187  
Option 1 ID : 264330409051  
Option 2 ID : 264330409050  
Option 3 ID : 264330409052  
Option 4 ID : 264330409049  
Status : Not Answered  
Chosen Option : --

Q.37 व्यास 2 cm और लंबाई 45 cm वाली किसी बेलनाकार धातु की छड़ को पिघलाया जाता है, और इससे एकसमान मोटाई और 5 m लंबाई वाले तार के रूप में रूपांतरित किया जाता है। तार का व्यास ज्ञात कीजिए।

- Ans
- 1. 2 mm
  - 2. 6 mm
  - 3. 3 mm
  - 4. 5 mm

Question ID : 264330123006  
Option 1 ID : 264330482090  
Option 2 ID : 264330482089  
Option 3 ID : 264330482087  
Option 4 ID : 264330482088  
Status : Answered  
Chosen Option : 2

Q.38 यदि दो संख्याओं का महत्तम समापवर्तक (HCF) 12 है, और उनका अनुपात 13 : 15 है, तो उन संख्याओं का लघुत्तम समापवर्तक (LCM) ज्ञात कीजिए।

- Ans
- 1. 2340
  - 2. 1780
  - 3. 1890
  - 4. 2450

Question ID : 26433071295  
Option 1 ID : 264330279605  
Option 2 ID : 264330279604  
Option 3 ID : 264330279606  
Option 4 ID : 264330279607  
Status : Answered  
Chosen Option : 1

Q.39 कंचन ने साधारण ब्याज की समान दर पर 2 वर्ष के लिए ₹10,000, और 4 वर्ष के लिए ₹5,000 उधार दिए। यदि कंचन को प्राप्त कुल ब्याज ₹2,000 है, तो ब्याज की दर कितनी थी?

- Ans
- 1. 2%
  - 2. 4%
  - 3. 5%
  - 4. 3%

Question ID : 264330165672  
Option 1 ID : 264330649767  
Option 2 ID : 264330649769  
Option 3 ID : 264330649770  
Option 4 ID : 264330649768  
Status : Answered  
Chosen Option : 3

Q.40 यदि एक गोले का आयतन  $38808 \text{ cm}^3$  है, तो इसका पृष्ठीय क्षेत्रफल कितना है?

- Ans
- 1.  $5574 \text{ cm}^2$
  - 2.  $5544 \text{ cm}^2$
  - 3.  $5554 \text{ cm}^2$
  - 4.  $5564 \text{ cm}^2$

Question ID : 264330145135  
Option 1 ID : 264330568798  
Option 2 ID : 264330568795  
Option 3 ID : 264330568796  
Option 4 ID : 264330568797  
Status : Answered  
Chosen Option : 2

Q.41 उस समचतुर्भुज का क्षेत्रफल क्या होगा, जिसकी एक भुजा का माप 17 cm और एक विकर्ण का माप 16 cm है?

- Ans
- 1.  $180 \text{ cm}^2$
  - 2.  $210 \text{ cm}^2$
  - 3.  $240 \text{ cm}^2$
  - 4.  $280 \text{ cm}^2$

Question ID : 264330106083  
Option 1 ID : 264330416633  
Option 2 ID : 264330416636  
Option 3 ID : 264330416635  
Option 4 ID : 264330416634  
Status : Not Answered  
Chosen Option : --

Q.42 निम्नलिखित व्यंजक का मान क्या होगा?

$$(1 + x)^3 + (1 - x)^3 + (-2)^3$$

- Ans
- 1.  $-3(1-x^2)$
  - 2.  $3(1-x^2)$
  - 3.  $6(1-x^2)$
  - 4.  $-6(1-x^2)$

Question ID : 264330157763

Option 1 ID : 264330618414

Option 2 ID : 264330618413

Option 3 ID : 264330618411

Option 4 ID : 264330618412

Status : Not Answered

Chosen Option : --

Q.43 नीचे दी गई तालिका में सरकार द्वारा 4 अलग-अलग वर्षों में लगाए गए पेड़ों की संख्या को दर्शाया गया है।

वर्ष	नीम	बलूत	सनोबर
2019	2000	3000	4000
2020	3000	4000	5000
2021	5000	6000	7000
2022	7000	8000	9000

वर्ष 2021 में लगाए गए नीम के पेड़ों की संख्या और वर्ष 2022 में लगाए गए सनोबर के पेड़ों की संख्या का अनुपात ज्ञात कीजिए।

- Ans
- 1. 5:8
  - 2. 3:7
  - 3. 3:8
  - 4. 5:9

Question ID : 264330158385

Option 1 ID : 264330620899

Option 2 ID : 264330620901

Option 3 ID : 264330620900

Option 4 ID : 264330620902

Status : Answered

Chosen Option : 4

Q.44 49 विद्यार्थियों का औसत वजन 53 kg है। जब एक नए विद्यार्थी को कक्षा में प्रवेश दिया जाता है, तो इस औसत में 500 g की कमी होती है। नए विद्यार्थी का वजन ज्ञात कीजिए।

- Ans
- 1. 48 kg
  - 2. 18 kg
  - 3. 38 kg
  - 4. 28 kg

Question ID : 264330104284

Option 1 ID : 264330409440

Option 2 ID : 264330409437

Option 3 ID : 264330409439

Option 4 ID : 264330409438

Status : Not Answered

Chosen Option : --



Q.45 निम्नलिखित में से किस संख्या को 6, 8 और 9 से विभाजित किए जाने पर 6, 8 और 9 के महत्तम समापवर्तक के बराबर शेषफल प्राप्त होता है?

- Ans  1. 291  
 2. 506  
 3. 433  
 4. 575

Question ID : 26433066165

Option 1 ID : 264330259195

Option 2 ID : 264330259193

Option 3 ID : 264330259192

Option 4 ID : 264330259194

Status : Not Answered

Chosen Option : --

Q.46 एक मेगास्टोर में, निम्नलिखित डेटा दिए गए वर्षों के दौरान खरीदी गई इकाइयों को दर्शाता है। 2015 से 2020 तक खरीदी गई कुल इकाइयों (तीनों उत्पादों में) में प्रतिशत वृद्धि कितनी है?

वर्ष	चाय	काँफी	कोल्ड ड्रिंक
2015	650	450	1008
2016	730	402	1092
2017	710	354	770
2018	570	438	812
2019	820	390	1043
2020	830	501	1330

- Ans  1. 22.75 प्रतिशत  
 2. 21.68 प्रतिशत  
 3. 25.76 प्रतिशत  
 4. 26.23 प्रतिशत

Question ID : 26433081647

Option 1 ID : 264330320424

Option 2 ID : 264330320423

Option 3 ID : 264330320422

Option 4 ID : 264330320421

Status : Not Answered

Chosen Option : --

Q.47 एक औसत परिवार का मासिक बजट निम्न तालिका में दिया गया है।

वर्ग	भोजन	वस्त्र	किराया	बचत
राशि	8000	2000	6000	4000

वस्त्रों पर खर्च किए गए मासिक बजट का प्रतिशत \_\_\_\_\_ है।

- Ans
- 1. 8%
  - 2. 10%
  - 3. 12%
  - 4. 4%

Question ID : 264330167239  
Option 1 ID : 264330655953  
Option 2 ID : 264330655952  
Option 3 ID : 264330655954  
Option 4 ID : 264330655951  
Status : Not Answered  
Chosen Option : --

Q.48 A, B और C का औसत वजन 77 kg है। यदि A और B का औसत वजन 68 kg है, तथा B और C का औसत वजन 83 kg है, तो B का वजन (kg में) कितना होगा?

- Ans
- 1. 71
  - 2. 74
  - 3. 73
  - 4. 67

Question ID : 264330170130  
Option 1 ID : 264330667197  
Option 2 ID : 264330667198  
Option 3 ID : 264330667196  
Option 4 ID : 264330667195  
Status : Not Answered  
Chosen Option : --

Q.49 रमेश एक सोफा सेट के अंकित मूल्य पर 25% की छूट के साथ पंद्रह प्रतिशत की अतिरिक्त छूट देता है। यदि सोफा सेट का विक्रय मूल्य ₹12,750 है, तो उस सोफा सेट का अंकित मूल्य ज्ञात कीजिए।

- Ans
- 1. ₹23,000
  - 2. ₹20,000
  - 3. ₹22,000
  - 4. ₹24,000

Question ID : 264330165522  
Option 1 ID : 264330649169  
Option 2 ID : 264330649167  
Option 3 ID : 264330649168  
Option 4 ID : 264330649170  
Status : Not Answered  
Chosen Option : --

Q.50  $\frac{a^2 - (b - c)^2}{(a + c)^2 - b^2} + \frac{b^2 - (a - c)^2}{(a + b)^2 - c^2} + \frac{c^2 - (a - b)^2}{(b + c)^2 - a^2}$  का मान क्या होगा?

- Ans  1. 1  
 2. -1  
 3. 2  
 4. 3

Question ID : 264330157772  
Option 1 ID : 264330618448  
Option 2 ID : 264330618447  
Option 3 ID : 264330618449  
Option 4 ID : 264330618450  
Status : Not Answered  
Chosen Option : --

Section : English Comprehension

Q.1 Select the most appropriate option that can substitute the underlined segment in the given sentence.  
Malati has a difficult job, but she does it good.

- Ans  1. well  
 2. best  
 3. nice  
 4. better

Question ID : 264330120553  
Option 1 ID : 264330472456  
Option 2 ID : 264330472458  
Option 3 ID : 264330472455  
Option 4 ID : 264330472457  
Status : Answered  
Chosen Option : 2

Q.2 Select the most appropriate option that can substitute the underlined segment in the given sentence. If there is no need to substitute it, select 'No substitution required'.  
He travelled the whole world, but found piece at home.

- Ans  1. peach  
 2. No substitution required  
 3. peace  
 4. prize

Question ID : 26433070773  
Option 1 ID : 264330277550  
Option 2 ID : 264330277551  
Option 3 ID : 264330277549  
Option 4 ID : 264330277548  
Status : Answered  
Chosen Option : 3

**Q.3** Select the most appropriate option to substitute the underlined segment in the given sentence.

At some point in the past, there were rows of temporary shops that used to display various cooking utensils.

Ans  1. In the past few years

2. Long ago

3. One upon a time

4. Before now

Question ID : 26433070646

Option 1 ID : 264330277045

Option 2 ID : 264330277047

Option 3 ID : 264330277046

Option 4 ID : 264330277044

Status : Answered

Chosen Option : 1

**Q.4** You are preparing a speech for an upcoming function. Select a synonym for the highlighted word to make it better.

Sexual assault is a severe and pervasive issue that can have a significant impact on a victim's life.

Ans  1. Equatorial

2. Longitudinal

3. Retrospective

4. Widespread

Question ID : 264330121905

Option 1 ID : 264330477778

Option 2 ID : 264330477777

Option 3 ID : 264330477776

Option 4 ID : 264330477775

Status : Answered

Chosen Option : 1

**Q.5** Select the most appropriate meaning of the highlighted idiom in the given sentence.

Nancy held a grudge against her teacher for a long time, but she finally decided to let bygone be bygone.

Ans  1. Ignore the past

2. Flatter someone

3. Take revenge

4. Change the past

Question ID : 264330108899

Option 1 ID : 264330427874

Option 2 ID : 264330427876

Option 3 ID : 264330427873

Option 4 ID : 264330427875

Status : Answered

Chosen Option : 4

**Q.6** Select the most appropriate meaning of the given word.

**Trousseau**

- Ans**
- 1. Single leg side of a trouser
  - 2. Being true to oneself
  - 3. The clothes, linen, and other belongings collected by a bride for her marriage
  - 4. A large cabinet full of expensive clothes

Question ID : 26433073743

Option 1 ID : 264330289113

Option 2 ID : 264330289112

Option 3 ID : 264330289114

Option 4 ID : 264330289115

Status : Not Answered

Chosen Option : --

**Q.7** Select the INCORRECTLY spelt word from the underlined words in the following sentence.

As affidevit is a statement or declaration in writing an oath or affirmation, sworn before a person having authority to administer oath.

- Ans**
- 1. affidevit
  - 2. administer
  - 3. authority
  - 4. affirmation

Question ID : 264330141155

Option 1 ID : 264330552963

Option 2 ID : 264330552966

Option 3 ID : 264330552965

Option 4 ID : 264330552964

Status : Answered

Chosen Option : 1

**Q.8** Select the most appropriate meaning of the underlined idiom in the following sentence.

Rahim had to eat a humble pie in starting a row with his neighbour over a trifle.

- Ans**
- 1. To take simple food
  - 2. To be punished for doing something wrong
  - 3. To remain without food
  - 4. To feel sorry and apologise for a mistake

Question ID : 264330157063

Option 1 ID : 264330615624

Option 2 ID : 264330615626

Option 3 ID : 264330615625

Option 4 ID : 264330615623

Status : Answered

Chosen Option : 4

**Q.9** Select the option that can be used as a one-word substitute for the given group of words.

A collection of historical documents or records providing information about a place, institution, or group of people

- Ans
- 1. Apostate
  - 2. Museum
  - 3. Archive
  - 4. Asylum

Question ID : 264330164298  
Option 1 ID : 264330644409  
Option 2 ID : 264330644410  
Option 3 ID : 264330644407  
Option 4 ID : 264330644408  
Status : Answered  
Chosen Option : 3

**Q.10** Select the most appropriate meaning of the underlined idiom.  
He ate the whole bunch of grapes under the nose of all of us.

- Ans
- 1. In full view of somebody
  - 2. Sharing equally
  - 3. Secretly
  - 4. After much persuasion

Question ID : 264330122978  
Option 1 ID : 264330481977  
Option 2 ID : 264330481976  
Option 3 ID : 264330481975  
Option 4 ID : 264330481978  
Status : Answered  
Chosen Option : 3

**Q.11** Select the most appropriate meaning of the given idiom.  
To burn the midnight oil

- Ans
- 1. To be relaxed and calm
  - 2. To stay up late working or studying
  - 3. To waste time
  - 4. To overthink

Question ID : 264330139773  
Option 1 ID : 264330547507  
Option 2 ID : 264330547508  
Option 3 ID : 264330547509  
Option 4 ID : 264330547510  
Status : Answered  
Chosen Option : 2

**Q.12** Select the most appropriate synonym of the given word.  
**Faithful**

- Ans
- 1. Daring
  - 2. Cheerful
  - 3. Unfaithful
  - 4. Loyal

Question ID : 264330164163  
Option 1 ID : 264330643903  
Option 2 ID : 264330643906  
Option 3 ID : 264330643904  
Option 4 ID : 264330643905  
Status : Answered  
Chosen Option : 4

**Q.13** The following sentence has been split into four segments. Identify the segment that contains a grammatical error.

It is take / a couple of minutes / for the computer / to boot up.

- Ans
- 1. It is take
  - 2. for the computer
  - 3. to boot up
  - 4. a couple of minutes

Question ID : 264330145277  
Option 1 ID : 264330569363  
Option 2 ID : 264330569365  
Option 3 ID : 264330569366  
Option 4 ID : 264330569364  
Status : Answered  
Chosen Option : 4

**Q.14** Select the most appropriate option that can substitute the underlined segment in the given sentence.

She was yearning for a trip to the mountains.

- Ans
- 1. deeply repenting
  - 2. saving money for
  - 3. leaving for
  - 4. keenly desiring

Question ID : 26433099881  
Option 1 ID : 264330392115  
Option 2 ID : 264330392116  
Option 3 ID : 264330392113  
Option 4 ID : 264330392114  
Status : Answered  
Chosen Option : 2

Q.15 Select the most appropriate synonym of the given word.

Extravagance

- Ans  1. Simplicity  
 2. Self- indulgence  
 3. Love  
 4. Fortune

Question ID : 264330163371  
Option 1 ID : 264330640773  
Option 2 ID : 264330640771  
Option 3 ID : 264330640774  
Option 4 ID : 264330640772  
Status : Answered  
Chosen Option : 2

Q.16 Select the most appropriate synonym of the given word.

Cruise

- Ans  1. Fall  
 2. Voyage  
 3. Bounce  
 4. Distance

Question ID : 264330163369  
Option 1 ID : 264330640765  
Option 2 ID : 264330640766  
Option 3 ID : 264330640764  
Option 4 ID : 264330640763  
Status : Not Answered  
Chosen Option : --

Q.17 The following sentence has been divided into parts. One of them may contain an error. Select the part that contains the error from the given options. If you don't find any error, mark 'No error' as your answer.

I was wish / to meet her / on her birthday.

- Ans  1. on her birthday  
 2. to meet her  
 3. No error  
 4. I was wish

Question ID : 26433073521  
Option 1 ID : 264330288234  
Option 2 ID : 264330288233  
Option 3 ID : 264330288235  
Option 4 ID : 264330288232  
Status : Answered  
Chosen Option : 4



**Q.18** Select the option that can be used as a one-word substitute for the given group of words.

A structure in the garden where climbing plants can grow and people can walk under

- Ans
- 1. Treehouse
  - 2. Tomb
  - 3. Outhouse
  - 4. Pergola

Question ID : 26433088896  
Option 1 ID : 264330349131  
Option 2 ID : 264330349132  
Option 3 ID : 264330349130  
Option 4 ID : 264330349129  
Status : Not Answered  
Chosen Option : --

**Q.19** Select the INCORRECTLY spelt word.

- Ans
- 1. Achieve
  - 2. Amicable
  - 3. Braed
  - 4. Isle

Question ID : 264330163410  
Option 1 ID : 264330640920  
Option 2 ID : 264330640919  
Option 3 ID : 264330640922  
Option 4 ID : 264330640921  
Status : Answered  
Chosen Option : 3

**Q.20** Select the INCORRECTLY spelt word in the given sentence.

The Egyptian Pharaohs were the Kings of ancient Egypt and were considered as the literal embodiment of God himself.

- Ans
- 1. literal
  - 2. ancient
  - 3. embodiment
  - 4. pharaohs

Question ID : 26433089738  
Option 1 ID : 264330352446  
Option 2 ID : 264330352448  
Option 3 ID : 264330352445  
Option 4 ID : 264330352447  
Status : Answered  
Chosen Option : 4

**Q.21** Select the most appropriate idiom for the given situation focusing on the underlined segment.

The modern era statistics data provides useful advantage to the players at competent level.

- Ans**
- 1. Cost an arm and a leg
  - 2. Put something on ice
  - 3. Grist to the mill
  - 4. Play it by ear

Question ID : 264330163409  
Option 1 ID : 264330640917  
Option 2 ID : 264330640916  
Option 3 ID : 264330640915  
Option 4 ID : 264330640918  
Status : Answered  
Chosen Option : 3

**Q.22** Select the option that will improve the underlined part of the given sentence.

Farmers have harvested wheat by using whatever labour that was available to them.

- Ans**
- 1. by using dispersed labour
  - 2. by using amalgamated labour
  - 3. by using limited labour
  - 4. by using united labour

Question ID : 264330145291  
Option 1 ID : 264330569422  
Option 2 ID : 264330569420  
Option 3 ID : 264330569421  
Option 4 ID : 264330569419  
Status : Answered  
Chosen Option : 3

**Q.23** Choose the option which means the same as the underlined segment.

The boss wanted to finish the case before the arrival of the Inspection team.

- Ans**
- 1. be over a barrel
  - 2. be over one's head
  - 3. be over and done with
  - 4. be over and over

Question ID : 264330120535  
Option 1 ID : 264330472390  
Option 2 ID : 264330472388  
Option 3 ID : 264330472389  
Option 4 ID : 264330472387  
Status : Answered  
Chosen Option : 2

**Q.24** Select the most appropriate meaning of the given idiom.

**Step up to the plate**

- Ans** ✓ 1. Take control of a situation  
✗ 2. Think about a crisis  
✗ 3. Plan for better performance  
✗ 4. Implement a plan

Question ID : 26433099939  
Option 1 ID : 264330392332  
Option 2 ID : 264330392331  
Option 3 ID : 264330392330  
Option 4 ID : 264330392329  
Status : Not Answered  
Chosen Option : --

**Q.25** Select the most appropriate option that can substitute the underlined segment in the given sentence.

**Naina is leaving and I am think to apply for her job.**

- Ans** ✗ 1. thinking on applying  
✗ 2. thinking in applying  
✓ 3. thinking about applying  
✗ 4. thinking about apply

Question ID : 264330108915  
Option 1 ID : 264330427939  
Option 2 ID : 264330427938  
Option 3 ID : 264330427940  
Option 4 ID : 264330427937  
Status : Answered  
Chosen Option : 3

**Q.26** Select the most appropriate ANTONYM of the given word.  
**Malice**

- Ans** ✗ 1. Torsion  
✓ 2. Kindness  
✗ 3. Haughtiness  
✗ 4. Tremor

Question ID : 26433097019  
Option 1 ID : 264330380812  
Option 2 ID : 264330380810  
Option 3 ID : 264330380809  
Option 4 ID : 264330380811  
Status : Answered  
Chosen Option : 2

**Q.27** Select the option that can be used as a one-word substitute for the given group of words.

Extremely beautiful, elaborate or impressive

- Ans
- 1. Deficient
  - 2. Transient
  - 3. Proficient
  - 4. Magnificent

Question ID : 26433089338  
Option 1 ID : 264330350853  
Option 2 ID : 264330350856  
Option 3 ID : 264330350854  
Option 4 ID : 264330350855  
Status : Answered  
Chosen Option : 4

**Q.28** The following sentence has been split into four segments. Identify the segment that contains a grammatical error.

We have being / arranged the stay / for the guests at / a hillside resort.

- Ans
- 1. for the guests at
  - 2. We have being
  - 3. a hillside resort
  - 4. arranged the stay

Question ID : 26433091957  
Option 1 ID : 264330361167  
Option 2 ID : 264330361165  
Option 3 ID : 264330361168  
Option 4 ID : 264330361166  
Status : Answered  
Chosen Option : 4

**Q.29** The following sentence has been divided into parts. One of them may contain an error. Select the part that contains the error from the given options. If you don't find any error, mark 'No error' as your answer.

We should / not make an noise / in the class.

- Ans
- 1. in the class
  - 2. not make an noise
  - 3. We should
  - 4. No error

Question ID : 264330117174  
Option 1 ID : 264330460763  
Option 2 ID : 264330460762  
Option 3 ID : 264330460761  
Option 4 ID : 264330460764  
Status : Answered  
Chosen Option : 2

**Q.30** Select the most appropriate ANTONYM for the highlighted word.  
The malice he developed for all caused a lot of damage.

- Ans  1. sympathy  
 2. avarice  
 3. oppression  
 4. grace

Question ID : 264330120741  
Option 1 ID : 264330473180  
Option 2 ID : 264330473179  
Option 3 ID : 264330473182  
Option 4 ID : 264330473181  
Status : Answered  
Chosen Option : 1

**Q.31** Identify the ANTONYM of the following word in the given sentence.  
Languid  
The animated infantry was marching forward for another rehearsal.

- Ans  1. animated  
 2. infantry  
 3. forward  
 4. rehearsal

Question ID : 264330167910  
Option 1 ID : 264330658559  
Option 2 ID : 264330658561  
Option 3 ID : 264330658560  
Option 4 ID : 264330658562  
Status : Not Answered  
Chosen Option : --

**Q.32** Select the most appropriate synonym of the given word.

Antique

- Ans  1. New  
 2. Gothic  
 3. Ancient  
 4. Modern

Question ID : 264330163355  
Option 1 ID : 264330640714  
Option 2 ID : 264330640712  
Option 3 ID : 264330640713  
Option 4 ID : 264330640711  
Status : Answered  
Chosen Option : 3

**Q.33** Select the most appropriate synonym of the given word.  
Fierce

- Ans  1. Lavish  
 2. Furious  
 3. Strange  
 4. Lame

Question ID : 264330117153  
Option 1 ID : 264330460680  
Option 2 ID : 264330460678  
Option 3 ID : 264330460679  
Option 4 ID : 264330460677  
Status : Not Answered  
Chosen Option : --

**Q.34** Select the option that can be used as a one-word substitute for the underlined group of words.

Since God is an all-powerful creator, he has absolute control over those whom he has created.

- Ans  1. Incurable  
 2. Omniscient  
 3. Omnipotent  
 4. Voracious

Question ID : 26433088835  
Option 1 ID : 264330348894  
Option 2 ID : 264330348896  
Option 3 ID : 264330348893  
Option 4 ID : 264330348895  
Status : Answered  
Chosen Option : 3

**Q.35** Select the most appropriate synonym of the underlined word.  
It was inevitable that the team management would sack him after his rude behaviour.

- Ans  1. impassionate  
 2. unavoidable  
 3. measurable  
 4. amiable

Question ID : 264330120616  
Option 1 ID : 264330472706  
Option 2 ID : 264330472705  
Option 3 ID : 264330472704  
Option 4 ID : 264330472703  
Status : Answered  
Chosen Option : 2

**Q.36** Select the most appropriate meaning of the given idiom.  
Steer clear of

- Ans** ✓ 1. Avoid someone or something because it is dangerous for you  
✗ 2. Show someone how to do a job or activity  
✗ 3. Be kind and empathetic to someone  
✗ 4. Loose temper and react furiously to someone

Question ID : 264330135998  
Option 1 ID : 264330532832  
Option 2 ID : 264330532831  
Option 3 ID : 264330532834  
Option 4 ID : 264330532833  
Status : Answered  
Chosen Option : 1

**Q.37** Select the INCORRECTLY spelt word.

- Ans** ✓ 1. Preferred  
✗ 2. Revered  
✗ 3. Answered  
✗ 4. Reference

Question ID : 264330163412  
Option 1 ID : 264330640928  
Option 2 ID : 264330640929  
Option 3 ID : 264330640930  
Option 4 ID : 264330640927  
Status : Answered  
Chosen Option : 1

**Q.38** Select the most appropriate idiom for the given situation.  
You wanted to speak but you controlled yourself and became patient. What have you done?

- Ans** ✗ 1. Pin drop silence  
✗ 2. Herculean task  
✓ 3. Held your horses  
✗ 4. Dragged your feet

Question ID : 264330100296  
Option 1 ID : 264330393749  
Option 2 ID : 264330393751  
Option 3 ID : 264330393750  
Option 4 ID : 264330393752  
Status : Answered  
Chosen Option : 3

**Q.39** Select the most appropriate meaning of the underlined idiom.  
Yamini is a great singer. She will make it big one day.

- Ans**
- 1. Become financially sound
  - 2. Succeed and become famous
  - 3. Educated and rich
  - 4. Migrate and settle

Question ID : 264330132897  
Option 1 ID : 264330520648  
Option 2 ID : 264330520649  
Option 3 ID : 264330520647  
Option 4 ID : 264330520650  
Status : Answered  
Chosen Option : 2

**Q.40** Select the INCORRECTLY spelt word.

- Ans**
- 1. Abduct
  - 2. Advise
  - 3. Adjourn
  - 4. Addict

Question ID : 26433089398  
Option 1 ID : 264330351093  
Option 2 ID : 264330351096  
Option 3 ID : 264330351095  
Option 4 ID : 264330351094  
Status : Answered  
Chosen Option : 4

**Comprehension:**

In the following passage, some words have been deleted. Read the passage carefully and select the most appropriate option to fill in each blank.

Discrimination refers to the inequitable or (1) \_\_\_\_\_ treatment of individuals or collectives on the basis of attributes such as ethnicity, sex, age and sexual orientation. Studies have indicated that the perception of discrimination can (2) \_\_\_\_\_ a series of stress-induced alterations in an individual's mental, physiological and behavioural responses. The experience of stress is known to elicit unfavourable emotional reactions, including but not limited to (3) \_\_\_\_\_, despair and resentment. Furthermore, anxiety has been linked to a rise in health-compromising behaviours such as smoking, drinking and (4) \_\_\_\_\_ drug use, while simultaneously causing a (5) \_\_\_\_\_ in health-promoting activities such as quality sleep and vigorous exercise.

**SubQuestion No : 41**

**Q.41** Select the most appropriate option to fill in blank no. 1.

- Ans**
- 1. pathetic
  - 2. tragic
  - 3. systematic
  - 4. biased

Question ID : 264330163437  
Option 1 ID : 264330641019  
Option 2 ID : 264330641022  
Option 3 ID : 264330641021  
Option 4 ID : 264330641020  
Status : Answered  
Chosen Option : 4



**Comprehension:**

In the following passage, some words have been deleted. Read the passage carefully and select the most appropriate option to fill in each blank.

Discrimination refers to the inequitable or (1)\_\_\_\_\_ treatment of individuals or collectives on the basis of attributes such as ethnicity, sex, age and sexual orientation. Studies have indicated that the perception of discrimination can (2)\_\_\_\_\_ a series of stress-induced alterations in an individual's mental, physiological and behavioural responses. The experience of stress is known to elicit unfavourable emotional reactions, including but not limited to (3)\_\_\_\_\_, despair and resentment. Furthermore, anxiety has been linked to a rise in health-compromising behaviours such as smoking, drinking and (4)\_\_\_\_\_ drug use, while simultaneously causing a (5)\_\_\_\_\_ in health-promoting activities such as quality sleep and vigorous exercise.

**SubQuestion No : 42**

**Q.42** Select the most appropriate option to fill in blank no. 2.

- Ans  1. trigger  
 2. inspire  
 3. motivate  
 4. support

Question ID : 264330163438

Option 1 ID : 264330641023

Option 2 ID : 264330641025

Option 3 ID : 264330641024

Option 4 ID : 264330641026

Status : Answered

Chosen Option : 1

**Comprehension:**

In the following passage, some words have been deleted. Read the passage carefully and select the most appropriate option to fill in each blank.

Discrimination refers to the inequitable or (1)\_\_\_\_\_ treatment of individuals or collectives on the basis of attributes such as ethnicity, sex, age and sexual orientation. Studies have indicated that the perception of discrimination can (2)\_\_\_\_\_ a series of stress-induced alterations in an individual's mental, physiological and behavioural responses. The experience of stress is known to elicit unfavourable emotional reactions, including but not limited to (3)\_\_\_\_\_, despair and resentment. Furthermore, anxiety has been linked to a rise in health-compromising behaviours such as smoking, drinking and (4)\_\_\_\_\_ drug use, while simultaneously causing a (5)\_\_\_\_\_ in health-promoting activities such as quality sleep and vigorous exercise.

**SubQuestion No : 43**

**Q.43** Select the most appropriate option to fill in blank no. 3.

- Ans  1. anxiety  
 2. deafness  
 3. death  
 4. impairment

Question ID : 264330163439

Option 1 ID : 264330641030

Option 2 ID : 264330641027

Option 3 ID : 264330641029

Option 4 ID : 264330641028

Status : Answered

Chosen Option : 3

**Comprehension:**

In the following passage, some words have been deleted. Read the passage carefully and select the most appropriate option to fill in each blank.

Discrimination refers to the inequitable or (1)\_\_\_\_\_ treatment of individuals or collectives on the basis of attributes such as ethnicity, sex, age and sexual orientation. Studies have indicated that the perception of discrimination can (2)\_\_\_\_\_ a series of stress-induced alterations in an individual's mental, physiological and behavioural responses. The experience of stress is known to elicit unfavourable emotional reactions, including but not limited to (3)\_\_\_\_\_, despair and resentment. Furthermore, anxiety has been linked to a rise in health-compromising behaviours such as smoking, drinking and (4)\_\_\_\_\_ drug use, while simultaneously causing a (5)\_\_\_\_\_ in health-promoting activities such as quality sleep and vigorous exercise.

**SubQuestion No : 44**

**Q.44** Select the most appropriate option to fill in blank no. 4.

- Ans  1. illicit  
 2. legitimate  
 3. mandatory  
 4. prescribed

Question ID : 264330163440

Option 1 ID : 264330641032

Option 2 ID : 264330641031

Option 3 ID : 264330641034

Option 4 ID : 264330641033

Status : Answered

Chosen Option : 1

**Comprehension:**

In the following passage, some words have been deleted. Read the passage carefully and select the most appropriate option to fill in each blank.

Discrimination refers to the inequitable or (1)\_\_\_\_\_ treatment of individuals or collectives on the basis of attributes such as ethnicity, sex, age and sexual orientation. Studies have indicated that the perception of discrimination can (2)\_\_\_\_\_ a series of stress-induced alterations in an individual's mental, physiological and behavioural responses. The experience of stress is known to elicit unfavourable emotional reactions, including but not limited to (3)\_\_\_\_\_, despair and resentment. Furthermore, anxiety has been linked to a rise in health-compromising behaviours such as smoking, drinking and (4)\_\_\_\_\_ drug use, while simultaneously causing a (5)\_\_\_\_\_ in health-promoting activities such as quality sleep and vigorous exercise.

**SubQuestion No : 45**

**Q.45** Select the most appropriate option to fill in blank no. 5.

- Ans  1. decline  
 2. upheaval  
 3. unfruitful  
 4. rise

Question ID : 264330163441

Option 1 ID : 264330641036

Option 2 ID : 264330641037

Option 3 ID : 264330641038

Option 4 ID : 264330641035

Status : Answered

Chosen Option : 1

### Comprehension:

Read the given passage carefully and answer the questions that follow.

The world of social media is a strange and wondrous place. It's a world where you can connect with people from all over the globe, share your thoughts and opinions, and maybe even go viral if you're lucky. But let's be real, it's also a world filled with endless cat videos, oversharing, and drama.

One of the most interesting things about social media is the way it's changed the way we communicate. We've gone from long, thoughtful emails to quick, abbreviated messages with emojis and acronyms. And don't even get me started on the whole hashtag phenomenon. It's like we're all speaking a different language now.

But there are also some downsides to this constant connection. It's easy to get sucked into the world of social media and forget about the real world around us. We're so busy scrolling through our feeds that we forget to enjoy the little moments in life. And let's not forget about the pressure to present the perfect life online. It's like we're all in a competition to see who can be the most popular, the most successful, the most enviable.

Despite all of this, I have to admit, I'm still a fan of social media. It's a great way to stay connected with friends and family, and I've even made some new friends through various online communities. Plus, let's face it, sometimes you just need a good laugh at a ridiculous meme.

### SubQuestion No : 46

**Q.46 Which of the following would be the most appropriate title for this passage?**

- Ans
- 1. The Dark Side of Social Media
  - 2. Mastering the Art of Social Media
  - 3. The Benefits of Social Media
  - 4. The Joys and Sorrows of Social Media

Question ID : 264330165127

Option 1 ID : 264330647620

Option 2 ID : 264330647621

Option 3 ID : 264330647619

Option 4 ID : 264330647622

Status : Answered

Chosen Option : 4

### Comprehension:

Read the given passage carefully and answer the questions that follow.

The world of social media is a strange and wondrous place. It's a world where you can connect with people from all over the globe, share your thoughts and opinions, and maybe even go viral if you're lucky. But let's be real, it's also a world filled with endless cat videos, oversharing, and drama.

One of the most interesting things about social media is the way it's changed the way we communicate. We've gone from long, thoughtful emails to quick, abbreviated messages with emojis and acronyms. And don't even get me started on the whole hashtag phenomenon. It's like we're all speaking a different language now.

But there are also some downsides to this constant connection. It's easy to get sucked into the world of social media and forget about the real world around us. We're so busy scrolling through our feeds that we forget to enjoy the little moments in life. And let's not forget about the pressure to present the perfect life online. It's like we're all in a competition to see who can be the most popular, the most successful, the most enviable.

Despite all of this, I have to admit, I'm still a fan of social media. It's a great way to stay connected with friends and family, and I've even made some new friends through various online communities. Plus, let's face it, sometimes you just need a good laugh at a ridiculous meme.

### SubQuestion No : 47

**Q.47 What is the theme of the passage?**

- Ans
- 1. The positive and negative effects of social media.
  - 2. The dangers of spending too much time online.
  - 3. The importance of social media for businesses.
  - 4. The history of social media.

Question ID : 264330165129

Option 1 ID : 264330647627

Option 2 ID : 264330647629

Option 3 ID : 264330647628

Option 4 ID : 264330647630

Status : Answered

Chosen Option : 1

### Comprehension:

Read the given passage carefully and answer the questions that follow.

The world of social media is a strange and wondrous place. It's a world where you can connect with people from all over the globe, share your thoughts and opinions, and maybe even go viral if you're lucky. But let's be real, it's also a world filled with endless cat videos, oversharing, and drama.

One of the most interesting things about social media is the way it's changed the way we communicate. We've gone from long, thoughtful emails to quick, abbreviated messages with emojis and acronyms. And don't even get me started on the whole hashtag phenomenon. It's like we're all speaking a different language now.

But there are also some downsides to this constant connection. It's easy to get sucked into the world of social media and forget about the real world around us. We're so busy scrolling through our feeds that we forget to enjoy the little moments in life. And let's not forget about the pressure to present the perfect life online. It's like we're all in a competition to see who can be the most popular, the most successful, the most enviable.

Despite all of this, I have to admit, I'm still a fan of social media. It's a great way to stay connected with friends and family, and I've even made some new friends through various online communities. Plus, let's face it, sometimes you just need a good laugh at a ridiculous meme.

### SubQuestion No : 48

**Q.48** What is the ANTONYM of the word 'perfect', as used in the passage?

- Ans
- 1. Limited
  - 2. Troublesome
  - 3. Unsatisfactory
  - 4. Laughable

Question ID : 264330165131

Option 1 ID : 264330647635

Option 2 ID : 264330647636

Option 3 ID : 264330647637

Option 4 ID : 264330647638

Status : Answered

Chosen Option : 2

### Comprehension:

Read the given passage carefully and answer the questions that follow.

The world of social media is a strange and wondrous place. It's a world where you can connect with people from all over the globe, share your thoughts and opinions, and maybe even go viral if you're lucky. But let's be real, it's also a world filled with endless cat videos, oversharing, and drama.

One of the most interesting things about social media is the way it's changed the way we communicate. We've gone from long, thoughtful emails to quick, abbreviated messages with emojis and acronyms. And don't even get me started on the whole hashtag phenomenon. It's like we're all speaking a different language now.

But there are also some downsides to this constant connection. It's easy to get sucked into the world of social media and forget about the real world around us. We're so busy scrolling through our feeds that we forget to enjoy the little moments in life. And let's not forget about the pressure to present the perfect life online. It's like we're all in a competition to see who can be the most popular, the most successful, the most enviable.

Despite all of this, I have to admit, I'm still a fan of social media. It's a great way to stay connected with friends and family, and I've even made some new friends through various online communities. Plus, let's face it, sometimes you just need a good laugh at a ridiculous meme.

### SubQuestion No : 49

**Q.49** What is one of the downsides of social media mentioned in the passage?

- Ans
- 1. It can lead to pressure to present a perfect life online.
  - 2. It's a great way to stay connected with friends and family.
  - 3. It encourages people to enjoy the little moments in life.
  - 4. It can help connect with people all over the globe.

Question ID : 264330165128

Option 1 ID : 264330647625

Option 2 ID : 264330647623

Option 3 ID : 264330647626

Option 4 ID : 264330647624

Status : Answered

Chosen Option : 3

**Comprehension:**

Read the given passage carefully and answer the questions that follow.

The world of social media is a strange and wondrous place. It's a world where you can connect with people from all over the globe, share your thoughts and opinions, and maybe even go viral if you're lucky. But let's be real, it's also a world filled with endless cat videos, oversharing, and drama.

One of the most interesting things about social media is the way it's changed the way we communicate. We've gone from long, thoughtful emails to quick, abbreviated messages with emojis and acronyms. And don't even get me started on the whole hashtag phenomenon. It's like we're all speaking a different language now.

But there are also some downsides to this constant connection. It's easy to get sucked into the world of social media and forget about the real world around us. We're so busy scrolling through our feeds that we forget to enjoy the little moments in life. And let's not forget about the pressure to present the perfect life online. It's like we're all in a competition to see who can be the most popular, the most successful, the most enviable.

Despite all of this, I have to admit, I'm still a fan of social media. It's a great way to stay connected with friends and family, and I've even made some new friends through various online communities. Plus, let's face it, sometimes you just need a good laugh at a ridiculous meme.

**SubQuestion No : 50**

**Q.50 Which of the following is NOT mentioned as a way social media has changed the way we communicate?**

- Ans**    ✓ 1. Video conferencing for more meaningful conversations.  
          ✗ 2. Quick, abbreviated messages with emojis and acronyms.  
          ✗ 3. Connecting with people from all over the world.  
          ✗ 4. The use of hashtags.

Question ID : 264330165130

Option 1 ID : 264330647633

Option 2 ID : 264330647631

Option 3 ID : 264330647634

Option 4 ID : 264330647632

Status : Answered

Chosen Option : 1

KD JOB UPDATES

# Sub Inspector in Delhi Police and Central Armed Police Forces Examination 2023 Paper I

Roll Number	KD JOB UPDATES
Candidate Name	KD JOB UPDATES
Venue Name	Purnodaya Mahila Mahavidyalaya
Exam Date	04/10/2023
Exam Time	9:00 AM - 11:00 AM
Subject	SICPO Paper I 2023

## Section : General Intelligence and Reasoning

Q.1 दिए गए विकल्पों में से उस आकृति का चयन करें, जो निम्नलिखित शृंखला में प्रश्नचिह्न (?) को प्रतिस्थापित करेगी।

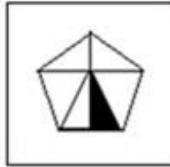


Ans

✗ 1.



✗ 2.



✓ 3.



✗ 4.



Question ID : 26433087166

Option 1 ID : 264330342303

Option 2 ID : 264330342302

Option 3 ID : 264330342304

Option 4 ID : 264330342301

Status : Answered

Chosen Option : 3

Q.2 नीचे दिए गए चार अक्षर-समूहों में से तीन किसी प्रकार से आपस में संबंधित हैं और कोई एक उनसे असंगत है। असंगत अक्षर-समूह का चयन कीजिए।

- Ans  1. ZSNK  
 2. WNDD  
 3. VOJG  
 4. TMHE

Question ID : 264330180757

Option 1 ID : 264330708995

Option 2 ID : 264330708997

Option 3 ID : 264330708998

Option 4 ID : 264330708996

Status : Answered

Chosen Option : 2

Q.3 "D @ G" का अर्थ है - "D, G का पिता है",  
"D # G" का अर्थ है - "D, G की पुत्री है",  
"D \* G" का अर्थ है - "D, G की माता है", और  
"D - G" का अर्थ है - "D, G का पति है"।  
यदि  $A - Q * B @ R$  है, तो A का R से क्या संबंध है?

- Ans  1. पिता  
 2. दादा  
 3. पुत्र  
 4. पति

Question ID : 264330126661

Option 1 ID : 264330496319

Option 2 ID : 264330496318

Option 3 ID : 264330496317

Option 4 ID : 264330496316

Status : Answered

Chosen Option : 2

Q.4 निम्नलिखित में से कौन-सी संख्या दी गई श्रृंखला में प्रश्नवाचक चिह्न (?) का स्थान लेगी?  
25, 26, 28, 32, 40, ?

- Ans  1. 58  
 2. 56  
 3. 52  
 4. 50

Question ID : 26433057326

Option 1 ID : 264330224291

Option 2 ID : 264330224290

Option 3 ID : 264330224288

Option 4 ID : 264330224289

Status : Answered

Chosen Option : 2

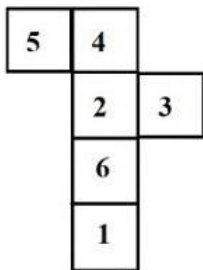
Q.5 निम्नलिखित में से कौन-सा अक्षर-समूह दी गई श्रृंखला में प्रश्न चिह्न (?) के स्थान पर आकर श्रृंखला को पूर्ण करेगा?

GOWB, MVEK, SCMT, ?, EQCL

- Ans  1. YJUC  
 2. YKUC  
 3. YKCU  
 4. YJCU

Question ID : 26433040788  
Option 1 ID : 264330159629  
Option 2 ID : 264330159630  
Option 3 ID : 264330159628  
Option 4 ID : 264330159627  
Status : Answered  
Chosen Option : 1

Q.6 यदि दी गई शीट को मोड़कर एक घन बनाया जाए, तो निर्मित घन में संख्या '1' वाले फलक के विपरीत फलक पर कौन सी संख्या होगी?



- Ans  1. 2  
 2. 4  
 3. 5  
 4. 3

Question ID : 26433065676  
Option 1 ID : 264330257266  
Option 2 ID : 264330257265  
Option 3 ID : 264330257264  
Option 4 ID : 264330257267  
Status : Answered  
Chosen Option : 1

Q.7 यदि '+' का अर्थ 'x' है, 'x' का अर्थ '-' है, '-' का अर्थ '÷' है और '÷' का अर्थ '+' है, तो दिए गए समीकरण में प्रश्नवाचक चिह्न (?) के स्थान पर क्या आएगा?  
 $9 + 3 \div 2 \times 135 - 15 = ?$

- Ans  1. 22  
 2. 20  
 3. 25  
 4. 18.5

Question ID : 264330114255  
Option 1 ID : 264330449107  
Option 2 ID : 264330449105  
Option 3 ID : 264330449108  
Option 4 ID : 264330449106  
Status : Answered  
Chosen Option : 2



Q.8 छह मित्र एक वृत्ताकार स्थिति में बैठे हुए हैं। वे सभी केंद्र की ओर मुख करके बैठे हैं। कनक, सोना के दाईं ओर तीसरे स्थान पर बैठी है। कपिल, मणि के ठीक बगल में है। गोल्डी, मणि के दाईं ओर दूसरे स्थान पर है। सोना, कपिल और सुरेश के ठीक बगल में है। कनक के बाईं ओर दूसरे स्थान पर कौन बैठा है?

- Ans
- 1. सुरेश
  - 2. गोल्डी
  - 3. कपिल
  - 4. मणि

Question ID : 264330145406  
Option 1 ID : 264330569879  
Option 2 ID : 264330569882  
Option 3 ID : 264330569880  
Option 4 ID : 264330569881  
Status : Answered  
Chosen Option : 3

Q.9 उस विकल्प का चयन करें, जो तीसरे शब्द से उसी प्रकार संबंधित है, जिस प्रकार दूसरा शब्द पहले शब्द से संबंधित है। (शब्दों को अर्थपूर्ण शब्दों के रूप में माना जाना चाहिए, और इनको शब्द में अक्षरों की संख्या/व्यंजनों/स्वरों की संख्या के आधार पर एक-दूसरे से संबंधित नहीं किया जाना चाहिए।)  
कुश्ती (Wrestling) : अखाड़ा (Arena) :: आइस-स्केटिंग (Ice-Skating) : ?

- Ans
- 1. बर्फ का मैदान (Rink)
  - 2. ट्रैक (Track)
  - 3. मैदान (Ground)
  - 4. स्टेडियम (Stadium)

Question ID : 26433091601  
Option 1 ID : 264330359770  
Option 2 ID : 264330359771  
Option 3 ID : 264330359769  
Option 4 ID : 264330359772  
Status : Answered  
Chosen Option : 1

Q.10 दो कथन दिए गए हैं, जिसके बाद दो निष्कर्ष I और II दिए गए हैं। कथनों को सत्य मानते हुए, भले ही वे सामान्य रूप से ज्ञात तथ्यों से भिन्न प्रतीत होते हों, निर्णय लें कि कौन-से निष्कर्ष कथनों का तार्किक रूप से पालन करते हैं?

कथन:  
सभी कार वाहन हैं।  
सभी वाहन ट्रक हैं।  
निष्कर्ष:  
I) सभी कार ट्रक हैं।  
II) सभी ट्रक वाहन हैं।

- Ans
- 1. निष्कर्ष I और II दोनों पालन करते हैं।
  - 2. न तो निष्कर्ष I और न ही निष्कर्ष II पालन करता है।
  - 3. केवल निष्कर्ष I पालन करता है।
  - 4. केवल निष्कर्ष II पालन करता है।

Question ID : 26433067701  
Option 1 ID : 264330265318  
Option 2 ID : 264330265319  
Option 3 ID : 264330265316  
Option 4 ID : 264330265317  
Status : Answered  
Chosen Option : 3

Q.11 B, E के पश्चिम में है। A, B के उत्तर-पश्चिम में है। F, B के उत्तर-पूर्व में है। D, F के दक्षिण-पूर्व में इस प्रकार है कि F, E के उत्तर-पश्चिम में है, और D, E के दक्षिण-पूर्व में भी है। यदि C, E के दक्षिण-पश्चिम में है, तो E के सापेक्ष A की स्थिति क्या है? (सभी स्थितियों को ग्रिड पैटर्न में व्यवस्थित किया गया है)

- Ans  1. उत्तर-पश्चिम  
 2. दक्षिण-पश्चिम  
 3. उत्तर-पूर्व  
 4. दक्षिण-पूर्व

Question ID : 26433068364  
Option 1 ID : 264330267969  
Option 2 ID : 264330267970  
Option 3 ID : 264330267971  
Option 4 ID : 264330267968  
Status : Answered  
Chosen Option : 1

Q.12 उस सही विकल्प का चयन कीजिए, जो दिए गए शब्दों के उसी क्रम में व्यवस्थापन को दर्शाता है, जिस क्रम में वे अंग्रेजी शब्दकोश में मौजूद होते हैं।

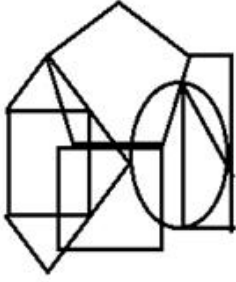
1. Realistic
2. Readily
3. Reach
4. Really
5. Reactor
6. Realize

- Ans  1. 3, 5, 2, 1, 6, 4  
 2. 3, 5, 6, 1, 2, 4  
 3. 3, 5, 1, 2, 6, 4  
 4. 3, 2, 6, 1, 5, 4

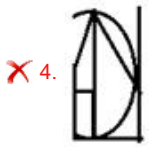
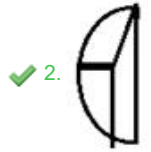
Question ID : 264330145383  
Option 1 ID : 264330569787  
Option 2 ID : 264330569788  
Option 3 ID : 264330569790  
Option 4 ID : 264330569789  
Status : Answered  
Chosen Option : 1

KD JOB UPDATES

Q.13 उस विकल्प आकृति का चयन कीजिए जो दी गई आकृति में उसके एक भाग के रूप में अंतर्निहित है  
(आकृति को घमाने की अनुमति नहीं है)



Ans



Question ID : 264330145463

Option 1 ID : 264330570110

Option 2 ID : 264330570109

Option 3 ID : 264330570107

Option 4 ID : 264330570108

Status : Answered

Chosen Option : 2

Q.14 निम्नलिखित में से कौन सी संख्या दी गई श्रेणी में प्रश्नचिह्न (?) के स्थान पर आएगी?  
239, 274, 309, 354, 399, 454, ?

Ans ✗ 1. 474

✗ 2. 499

✓ 3. 509

✗ 4. 539

Question ID : 26433067874

Option 1 ID : 264330266009

Option 2 ID : 264330266011

Option 3 ID : 264330266010

Option 4 ID : 264330266008

Status : Answered

Chosen Option : 3

Q.15 "A ? B" का अर्थ है कि "A, B का पुत्र है"।  
"A \$ B" का अर्थ है कि "A, B की पुत्री है"।  
"A \* B" का अर्थ है कि "A, B का भाई है"।  
"A = B" का अर्थ है कि "A, B का पिता है"।  
यदि H \$ Q \* Y \* N है, तो Y का H से क्या संबंध है?

Ans  1. पिता

2. चाचा/ताऊ

3. दादा

4. भाई

Question ID : 264330145388

Option 1 ID : 264330569807

Option 2 ID : 264330569810

Option 3 ID : 264330569808

Option 4 ID : 264330569809

Status : Answered

Chosen Option : 2

Q.16 किसी निश्चित कूट भाषा में, 'LIFE' को '9351' के रूप में कूटबद्ध किया जाता है, और 'NEAR' को '4692' के रूप में कूटबद्ध किया जाता है। दी गई उस कूट भाषा में 'E' के लिए कूट क्या है?

Ans  1. 1

2. 3

3. 4

4. 9

Question ID : 264330169657

Option 1 ID : 264330665330

Option 2 ID : 264330665329

Option 3 ID : 264330665328

Option 4 ID : 264330665327

Status : Answered

Chosen Option : 4

Q.17 उस समुच्चय का चयन कीजिए जिसमें संख्याएँ उसी प्रकार संबंधित हैं जिस प्रकार निम्नलिखित समुच्चयों की संख्याएँ संबंधित हैं।

(नोट: संख्याओं को उसके घटक अंकों में विभाजित किए बिना, पूर्ण संख्याओं पर संक्रियाएँ की जानी चाहिए। उदाहरण के लिए 13 - इसमें 13 पर जोड़ने / घटाने / गुणा करने आदि जैसी संक्रियाओं को 13 में किया जा सकता है। 13 को 1 और 3 में विभाजित करने और फिर 1 और 3 पर गणितीय संक्रियाएँ करने की अनुमति नहीं है)

(329, 145, 184), (567, 221, 346)

Ans  1. (464, 264, 206)

2. (308, 205, 192)

3. (676, 225, 451)

4. (506, 302, 224)

Question ID : 264330145297

Option 1 ID : 264330569444

Option 2 ID : 264330569446

Option 3 ID : 264330569443

Option 4 ID : 264330569445

Status : Answered

Chosen Option : 3

Q.18 यदि A, B, C, D और E क्रमशः +, -, ×, ÷ और = को निरूपित करते हैं, तो निम्नलिखित में से कौन-सा विकल्प सही है?

- Ans  1. 4A9C6D2E40B9  
 2. 4A9C6D2E40A9  
 3. 4A9E6D2C40B9  
 4. 4A9C6D2B40E9

Question ID : 26433057353

Option 1 ID : 264330224399

Option 2 ID : 264330224396

Option 3 ID : 264330224398

Option 4 ID : 264330224397

Status : Not Answered

Chosen Option : --

Q.19 निम्नलिखित में से तीन अक्षर-समूह किसी न किसी तरह से संगत हैं, और एक असंगत है। असंगत अक्षर समूह का चयन करें।

- Ans  1. SVXY  
 2. NQST  
 3. PSUV  
 4. GTHS

Question ID : 264330145349

Option 1 ID : 264330569651

Option 2 ID : 264330569653

Option 3 ID : 264330569652

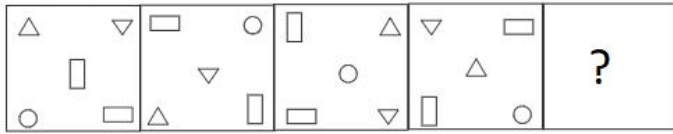
Option 4 ID : 264330569654

Status : Answered

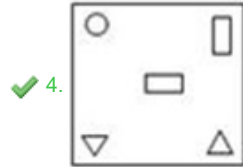
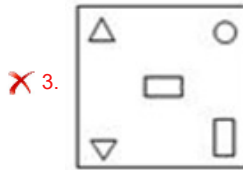
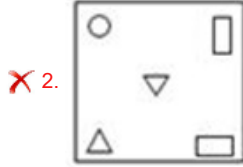
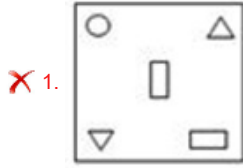
Chosen Option : 4

KD JOB UPDATES

Q.20 वह आकृति चुनें, जो नीचे दी गई आकृति श्रृंखला में प्रश्न चिह्न (?) के स्थान पर आएगी।



Ans



Question ID : 264330145493

Option 1 ID : 264330570228

Option 2 ID : 264330570230

Option 3 ID : 264330570229

Option 4 ID : 264330570227

Status : Answered

Chosen Option : 4

Q.21 यदि '+' का अर्थ '-' है, '-' का अर्थ 'x' है, 'x' का अर्थ '÷' है और '÷' का अर्थ '+' है, तो निम्नलिखित समीकरण में '?' के स्थान पर क्या आएगा?  
 $36 - 5 \div 240 \times 6 + 17 = ?$

Ans ✗ 1. 218

✗ 2. 237

✓ 3. 203

✗ 4. 221

Question ID : 264330101144

Option 1 ID : 264330397122

Option 2 ID : 264330397123

Option 3 ID : 264330397124

Option 4 ID : 264330397121

Status : Answered

Chosen Option : 3

Q.22 दर्पण को चित्र में दिखाए अनुसार MN पर रखे जाने पर दी गई आकृति के सही दर्पण प्रतिबिम्ब का चयन करें।



Ans

✓ 1. X H Ɔ Ɔ Ɔ B

✗ 2. B K \$ 6 G H R

✗ 3. B K \$ 6 G H X

✗ 4. B K \$ 6 G H R

Question ID : 26433085400

Option 1 ID : 264330335303

Option 2 ID : 264330335304

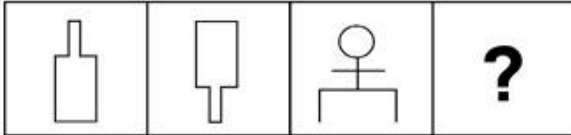
Option 3 ID : 264330335301

Option 4 ID : 264330335302

Status : Answered

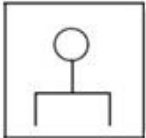
Chosen Option : 1

Q.23 उस आकृति का चयन कीजिये जो निम्न श्रृंखला में प्रश्नवाचक चिह्न (?) के स्थान पर आएगी।

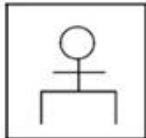


Ans

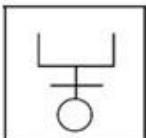
✗ 1.




✗ 2.



✓ 3.



✗ 4.



Question ID : 26433082667

Option 1 ID : 264330324504

Option 2 ID : 264330324503

Option 3 ID : 264330324502

Option 4 ID : 264330324501

Status : Answered

Chosen Option : 3

Q.24 दिए गए अक्षर-समूहों में से कौन-सा, दी गई श्रृंखला में प्रश्न-चिह्न (?) के स्थान पर आकर श्रृंखला को पूर्ण करेगा?

VQSN, ?, ROOL, PNMK, NMKJ

- Ans
- 1. PQMN
  - 2. PTMQ
  - 3. TQRN
  - 4. TPQM

Question ID : 264330180760

Option 1 ID : 264330709010

Option 2 ID : 264330709008

Option 3 ID : 264330709007

Option 4 ID : 264330709009

Status : Answered

Chosen Option : 4

Q.25 दिए गए समीकरण को सही बनाने के लिए किन दो चिह्नों को आपस में बदला जाना चाहिए?

$$114 \div 85 + 5 \times 4 - 33 = 149$$

- Ans
- 1. - और +
  - 2. + और ×
  - 3. + और -
  - 4. + और +

Question ID : 264330129523

Option 1 ID : 264330507460

Option 2 ID : 264330507461

Option 3 ID : 264330507458

Option 4 ID : 264330507459

Status : Answered

Chosen Option : 4

Q.26 नीचे दो कथन और दो निष्कर्ष दिए गए हैं। कथनों को सत्य मानते हुए, भले ही वे सामान्य रूप से ज्ञात तथ्यों से भिन्न प्रतीत होते हों, निर्धारित करें कि कौन-से निष्कर्ष दिए गए कथनों का तार्किक रूप से पालन करते हैं?

कथन:

कुछ चूहे चटाई हैं।

सभी चटाई चींटियां हैं।

निष्कर्ष:

I. कुछ चूहे चींटियां हैं।

II. कुछ चींटियां चटाई हैं।

- Ans
- 1. दोनों निष्कर्ष पालन करते हैं
  - 2. केवल निष्कर्ष I पालन करता है
  - 3. केवल निष्कर्ष II पालन करता है
  - 4. न तो निष्कर्ष I और न ही निष्कर्ष II पालन करता है

Question ID : 26433056645

Option 1 ID : 264330221566

Option 2 ID : 264330221564

Option 3 ID : 264330221565

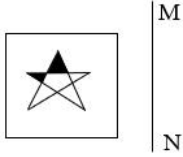
Option 4 ID : 264330221567

Status : Answered

Chosen Option : 1



Q.27 जब दर्पण को रेखा MN पर रखा जाता है, तो दी गई आकृति का सही दर्पण प्रतिबिंब ज्ञात कीजिए।



Ans


✗ 1.



✗ 2.



✓ 3.



✗ 4.



Question ID : 26433056625

Option 1 ID : 264330221487

Option 2 ID : 264330221484

Option 3 ID : 264330221486

Option 4 ID : 264330221485

Status : Answered

Chosen Option : 3

Q.28 नीचे तीन कथन और उसके बाद I, II और III क्रमांक वाले तीन निष्कर्ष दिए गए हैं। यह मानते हुए कि कथनों में दी गई जानकारी सत्य है, भले ही ये कथन सामान्य रूप से ज्ञात तथ्यों से भिन्न प्रतीत होते हों, यह निर्णय कीजिए कि कौन से निष्कर्ष इन कथनों का तार्किक रूप से पालन करते हैं?

कथन:

कुछ हाथी मछलियां हैं।  
कोई मछली बाघ नहीं है।  
सभी हिरण बाघ हैं।

निष्कर्ष:

I. कुछ हाथी हिरण हैं।  
II. कोई हाथी बाघ नहीं है।  
III. कोई हिरण मछली नहीं है।

Ans

✓ 1. केवल निष्कर्ष III पालन करता है।

✗ 2. केवल निष्कर्ष II पालन करता है।

✗ 3. निष्कर्ष I और II दोनों पालन करते हैं।

✗ 4. निष्कर्ष I और III दोनों पालन करते हैं।

Question ID : 264330145343

Option 1 ID : 264330569630

Option 2 ID : 264330569629

Option 3 ID : 264330569627

Option 4 ID : 264330569628

Status : Answered

Chosen Option : 1

Q.29 यदि '+' का अर्थ '-', '-' का अर्थ 'x', 'x' का अर्थ '=', '=' का अर्थ '+' हो, तो निम्नलिखित समीकरण में प्रश्न चिह्न (?) के स्थान पर क्या आएगा?  
 $124 \times 4 \div 13 - 3 + 36 = ?$

- Ans
- 1. 45
  - 2. 42
  - 3. 34
  - 4. 31

Question ID : 264330126059

Option 1 ID : 264330493908

Option 2 ID : 264330493910

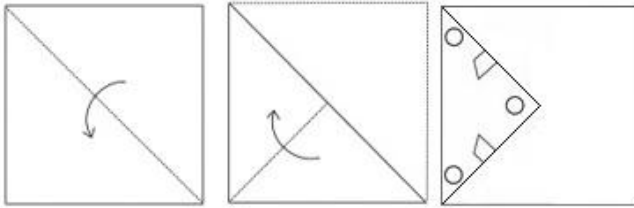
Option 3 ID : 264330493911

Option 4 ID : 264330493909

Status : Answered

Chosen Option : 3

Q.30 नीचे आकृति में दिखाए गए अनुसार एक कागज को मोड़ा और काटा जाता है। खोले जाने पर यह कैसा दिखेगा?



Ans

- 1.
- 2.
- 3.
- 4.

Question ID : 26433040795

Option 1 ID : 264330159655

Option 2 ID : 264330159657

Option 3 ID : 264330159658

Option 4 ID : 264330159656

Status : Answered

Chosen Option : 1

Q.31 एक निश्चित कूट भाषा में, "good morning" को "mu du" के रूप में कूटबद्ध किया जाता है, "early morning tea" को "du tu se" के रूप में कूटबद्ध किया जाता है, और "tea is early" को "se re tu" के रूप में कूटबद्ध किया जाता है। शब्द "is" के लिए कूट क्या होगा?

- Ans
- 1. mu
  - 2. du
  - 3. tu
  - 4. re

Question ID : 26433074766

Option 1 ID : 264330293154

Option 2 ID : 264330293152

Option 3 ID : 264330293155

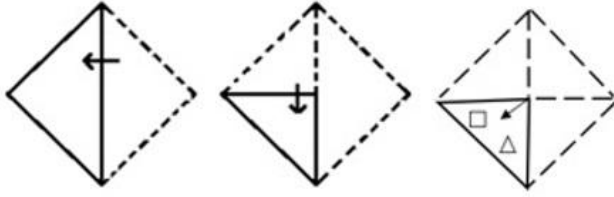
Option 4 ID : 264330293153

Status : Answered

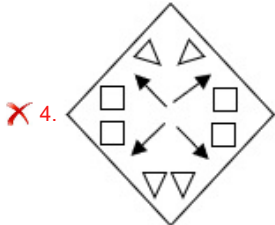
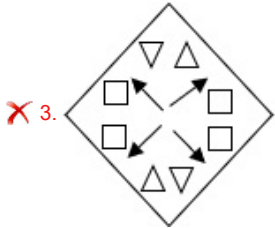
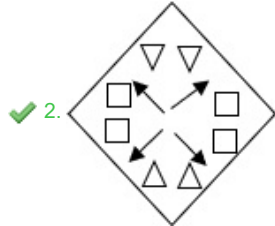
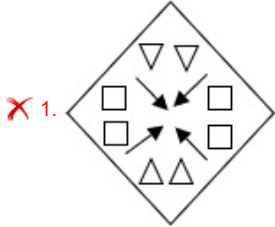
Chosen Option : 4

KD JOB UPDATES

Q.32 एक कागज को नीचे दिखाए अनुसार मोड़ा और काटा जाता है। कागज को खोले जाने पर यह कैसा दिखाई देगा?



Ans



KD JOB UPDATES

Question ID : 26433068732

Option 1 ID : 264330269443

Option 2 ID : 264330269442

Option 3 ID : 264330269441

Option 4 ID : 264330269440

Status : Answered

Chosen Option : 2

Q.33 निम्नलिखित में से कौन-सी संख्या दी गई श्रृंखला में प्रश्न-चिह्न (?) को प्रतिस्थापित करेगी?  
352, 326, 284, 225, 148, ?

- Ans  1. 50  
 2. 52  
 3. 54  
 4. 71

Question ID : 26433069399  
Option 1 ID : 264330272111  
Option 2 ID : 264330272108  
Option 3 ID : 264330272110  
Option 4 ID : 264330272109  
Status : Answered  
Chosen Option : 2

Q.34 इस प्रश्न में, तीन कथन और उसके बाद दो निष्कर्ष I और II दिए गए हैं। कथनों को सत्य मानते हुए, भले ही वे सामान्यतः ज्ञात तथ्यों से भिन्न प्रतीत होते हों, निर्णय लें कि कौन-से निष्कर्ष तार्किक रूप से कथनों का पालन करते हैं?

कथन:

- I. सभी बिल्डिंग, टॉवर हैं।  
II. कोई टॉवर, दुकान नहीं है।  
III. कुछ दुकानें, कार्यालय हैं।

निष्कर्ष:

- I. कुछ कार्यालय, टॉवर हैं।  
II. कोई बिल्डिंग, दुकान नहीं है।

- Ans  1. केवल निष्कर्ष I पालन करता है  
 2. न तो निष्कर्ष I और न ही निष्कर्ष II पालन करता है  
 3. केवल निष्कर्ष II पालन करता है  
 4. दोनों निष्कर्ष I और II पालन करते हैं

Question ID : 264330104078  
Option 1 ID : 264330408613  
Option 2 ID : 264330408616  
Option 3 ID : 264330408614  
Option 4 ID : 264330408615  
Status : Answered  
Chosen Option : 3

Q.35 उस विकल्प का चयन कीजिए, जो दिए गए शब्दों के उस सही क्रम को दर्शाता है, जिस क्रम में वे अंग्रेजी शब्दकोश में मौजूद होते हैं।

- 1.Voice  
2.Vocalist  
3.Vivisection  
4.Void  
5.Vogue

- Ans  1. 3, 2, 5, 1, 4  
 2. 5, 2, 3, 1, 4  
 3. 2, 3, 5, 1, 4  
 4. 4, 2, 3, 1, 5

Question ID : 26433067244  
Option 1 ID : 264330263489  
Option 2 ID : 264330263488  
Option 3 ID : 264330263490  
Option 4 ID : 264330263491  
Status : Answered  
Chosen Option : 1

Q.36 एक निश्चित कूट भाषा में "ASIA" को " ZHRZ" और "IRELAND" को "RIVOZMW" के रूप में कूटबद्ध किया जाता है। उसी कूट भाषा में "NORWAY" को किस प्रकार कूटबद्ध किया जाएगा?

- Ans
- 1. MJIDZB
  - 2. NJIDZB
  - 3. NLISZB
  - 4. MLIDZB

Question ID : 26433079050  
Option 1 ID : 264330310206  
Option 2 ID : 264330310204  
Option 3 ID : 264330310207  
Option 4 ID : 264330310205  
Status : Answered  
Chosen Option : 4

Q.37 उस समुच्चय का चयन करें जिसमें संख्याएँ उसी प्रकार संबंधित हैं, जिस प्रकार दिए गए समुच्चय की संख्याएँ हैं।

(नोट: गणितीय संक्रियाएँ संख्याओं को उसके घटक अंकों में विभाजित किए बिना, पूर्ण संख्याओं पर की जानी चाहिए। उदाहरण के लिए 13 – 13 पर गणितीय संक्रियाएँ जैसे कि जोड़ना / घटाना / गुणा करना आदि की जा सकती हैं। 13 को 1 और 3 के रूप में अलग करने और फिर 1 और 3 पर गणितीय संक्रियाएँ करने की अनुमति नहीं है।)  
(13, 14, 54)  
(15, 18, 66)

- Ans
- 1. (11, 13, 52)
  - 2. (15, 17, 66)
  - 3. (13, 19, 64)
  - 4. (12, 34, 90)

Question ID : 26433069109  
Option 1 ID : 264330270951  
Option 2 ID : 264330270950  
Option 3 ID : 264330270948  
Option 4 ID : 264330270949  
Status : Answered  
Chosen Option : 3

Q.38 सात व्यक्ति A, B, C, D, E, F और G उत्तर की ओर मुख करके एक सीधी पंक्ति में बैठे हैं (उनका इसी क्रम में होना अनिवार्य नहीं है)। D की दाईं ओर केवल 2 व्यक्ति बैठे हैं। G, D के ठीक बगल में बैठा है। A और G के बीच में केवल 3 व्यक्ति बैठे हैं। B और C के बीच में केवल 2 व्यक्ति बैठे हैं। E, C के ठीक बगल में नहीं है। F, G के दाईं ओर ठीक बगल में बैठा है। E और D के बीच में कितने व्यक्ति बैठे हैं?

- Ans
- 1. 0
  - 2. 2
  - 3. 3
  - 4. 1

Question ID : 264330145409  
Option 1 ID : 264330569891  
Option 2 ID : 264330569893  
Option 3 ID : 264330569894  
Option 4 ID : 264330569892  
Status : Answered  
Chosen Option : 4

Q.39 उस समुच्चय का चयन कीजिए जिसमें संख्याएँ एक-दूसरे से उसी प्रकार संबंधित हैं जिस प्रकार निम्नलिखित समुच्चय की संख्याएँ आपस में संबंधित हैं।

(नोट: संख्याओं को उसके घटक अंकों में विभाजित किए बिना, पूर्ण संख्याओं पर गणितीय संक्रियाएँ की जानी चाहिए। उदाहरण के लिए 13 - संख्या 13 पर गणितीय संक्रियाएँ जैसे कि जोड़ना / घटाना / गुणा करना आदि को 13 से किया जा सकता है। 13 को 1 और 3 में तोड़ना और फिर 1 और 3 पर गणितीय संक्रियाएँ करने की अनुमति नहीं है)

(21, 5, 120)  
(2, 7, 8)

- Ans ✓ 1. (3,4,10)  
✗ 2. (2,6,21)  
✗ 3. (4,7,34)  
✗ 4. (3,4,16)

Question ID : 264330145329  
Option 1 ID : 264330569573  
Option 2 ID : 264330569574  
Option 3 ID : 264330569572  
Option 4 ID : 264330569571  
Status : Answered  
Chosen Option : 1

Q.40 उस विकल्प का चयन कीजिए, जो तीसरे शब्द से उसी प्रकार संबंधित है, जिस प्रकार दूसरा शब्द पहले शब्द से संबंधित है। (शब्दों को अर्थपूर्ण शब्दों के रूप में माना जाना चाहिए, और वह शब्द में अक्षरों की संख्या/व्यंजनो/स्वरों की संख्या के आधार पर एक-दूसरे से संबंधित नहीं होना चाहिए।)

व्युत्पन्न होना (Derive) : निष्कर्ष निकालना (Infer) :: गुहार लगाना (Urge) : ?

- Ans ✗ 1. विरोध करना (Protest)  
✓ 2. आग्रह करना (Exhort)  
✗ 3. बाधा डालना (Hinder)  
✗ 4. दोष लगाना (Censure)

Question ID : 264330145398  
Option 1 ID : 264330569848  
Option 2 ID : 264330569849  
Option 3 ID : 264330569850  
Option 4 ID : 264330569847  
Status : Answered  
Chosen Option : 2

Q.41 दिए गए विकल्पों में से वह संख्या चुनिए, जो निम्नलिखित श्रृंखला में प्रश्न-चिह्न (?) को प्रतिस्थापित कर सके।  
61, 95, 138, 197, 279, ?

- Ans ✓ 1. 391  
✗ 2. 397  
✗ 3. 395  
✗ 4. 389

Question ID : 26433057050  
Option 1 ID : 264330223184  
Option 2 ID : 264330223186  
Option 3 ID : 264330223187  
Option 4 ID : 264330223185  
Status : Answered  
Chosen Option : 1

Q.42 उस विकल्प का चयन करें, जो उन अक्षरों को निरूपित करता है, जिन्हें नीचे दिए गए रिक्त स्थानों में क्रमिक रूप से बाएं से दाएं रखे जाने पर दी गई अक्षर श्रृंखला पूरी हो जाएगी।

P \_ \_ H \_ \_ C E \_ Z P \_ E H \_

- Ans
- 1. HZCZPEC
  - 2. ZCHPZCE
  - 3. EPZCHEC
  - 4. CEZPHCZ

Question ID : 26433086954

Option 1 ID : 264330341459

Option 2 ID : 264330341457

Option 3 ID : 264330341460

Option 4 ID : 264330341458

Status : Answered

Chosen Option : 4

Q.43 एक व्यक्ति पार्क में उत्तर की ओर अभिमुख होकर खड़ा है। वह बायीं ओर  $90^\circ$  मुड़ता है और 40 Km चलता है। वह फिर से दाहिनी ओर  $90^\circ$  मुड़ता है और 50 Km चलता है। वह फिर से  $90^\circ$  दाहिनी ओर मुड़ता है और 60 Km चलता है। अंत में, वह दायीं ओर  $90^\circ$  मुड़ता है और 50 Km चलता है। वह आरंभिक बिंदु से कितनी दूरी पर है?

- Ans
- 1. 40 km
  - 2. 50 km
  - 3. 60 km
  - 4. 20 km

Question ID : 26433093124

Option 1 ID : 264330365749

Option 2 ID : 264330365750

Option 3 ID : 264330365752

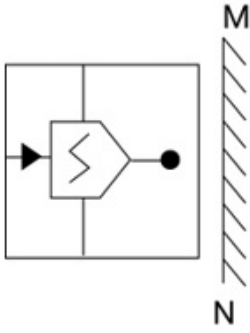
Option 4 ID : 264330365751

Status : Answered

Chosen Option : 4

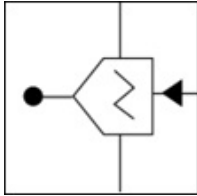


Q.44 दर्पण को नीचे चित्र के अनुसार 'MN' पर रखे जाने पर दिए गए संयोजन के सही दर्पण प्रतिबिंब का चयन करें।

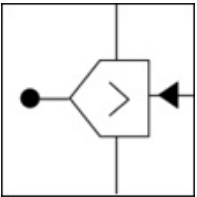


Ans

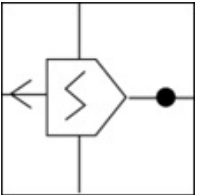
✓ 1.



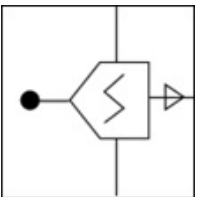
✗ 2.



✗ 3.



✗ 4.



KD JOB UPDATES

Question ID : 264330130776

Option 1 ID : 264330512217

Option 2 ID : 264330512218

Option 3 ID : 264330512216

Option 4 ID : 264330512215

Status : Answered

Chosen Option : 1

Q.45 यदि A का अर्थ '+' है, B का अर्थ 'x' है, C का अर्थ '-' है, और D का अर्थ '÷' है, तो निम्नलिखित समीकरण में '?' के स्थान पर क्या आएगा?  
145 A 27 D 3 B ? = 163

Ans ✗ 1. 1

✗ 2. 3

✓ 3. 2

✗ 4. 6

Question ID : 26433067673

Option 1 ID : 264330265204

Option 2 ID : 264330265207

Option 3 ID : 264330265206

Option 4 ID : 264330265205

Status : Answered

Chosen Option : 3

Q.46 एक निश्चित कूट भाषा में "TRAUMA" को "36" और "STIL" को "24" के रूप में कूटबद्ध किया जाता है। उसी कूट भाषा में "OBEIDEINT" को किस प्रकार कूटबद्ध किया जाएगा?

Ans  1. 72

2. 54

3. 44

4. 84

Question ID : 26433079049

Option 1 ID : 264330310202

Option 2 ID : 264330310201

Option 3 ID : 264330310200

Option 4 ID : 264330310203

Status : Not Answered

Chosen Option : --

Q.47 यदि '+' का अर्थ '-', '-' का अर्थ '×', '×' का अर्थ '÷', '÷' का अर्थ '+' हो, तो निम्नलिखित समीकरण में प्रश्न चिह्न (?) के स्थान पर क्या आएगा?  
 $61 \div 9 \times 3 - 8 + 5 = ?$

Ans  1. 72

2. 75

3. 89

4. 80

Question ID : 264330126055

Option 1 ID : 264330493892

Option 2 ID : 264330493895

Option 3 ID : 264330493893

Option 4 ID : 264330493894

Status : Answered

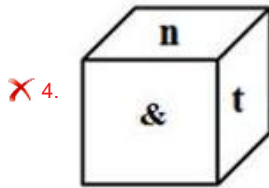
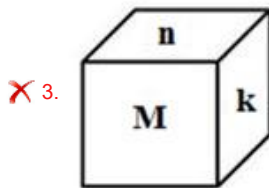
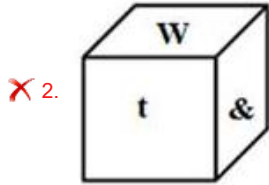
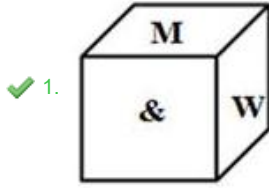
Chosen Option : 4

KD JOB UPDATES

Q.48 यदि दी गई शीट को मोड़कर एक घन का आकार दिया जाता है, तो विकल्पों में से कौन-सी आकृति संभव नहीं है?

&			
W	t	n	k
M			

Ans



Question ID : 26433059914  
Option 1 ID : 264330234488  
Option 2 ID : 264330234489  
Option 3 ID : 264330234490  
Option 4 ID : 264330234491  
Status : Answered  
Chosen Option : 1

Q.49 उस विकल्प का चयन कीजिये जो तीसरे पद से उसी प्रकार संबंधित है जैसे दूसरा पद पहले पद से और छठा पद पांचवें पद से संबंधित है।  
142 : 108 :: 185 : ? :: 169 : 135

- Ans
- ✗ 1. 162
  - ✓ 2. 151
  - ✗ 3. 148
  - ✗ 4. 157

Question ID : 26433079157  
Option 1 ID : 264330310634  
Option 2 ID : 264330310633  
Option 3 ID : 264330310632  
Option 4 ID : 264330310635  
Status : Answered  
Chosen Option : 2

Q.50 किसी निश्चित कूट भाषा में, 'FIRE' को '7391' के रूप में कूटबद्ध किया जाता है, और 'AGED' को '8247' के रूप में कूटबद्ध किया जाता है। दी गई उस कूट भाषा में 'E' के लिए कूट क्या है?

- Ans
- 1. 3
  - 2. 2
  - 3. 7
  - 4. 4

Question ID : 264330169658  
Option 1 ID : 264330665331  
Option 2 ID : 264330665333  
Option 3 ID : 264330665332  
Option 4 ID : 264330665334  
Status : Answered  
Chosen Option : 3

Section : General Knowledge and General Awareness

Q.1 बीटिंग रिट्रीट (Beating Retreat) समारोह निम्नलिखित में से किस स्थान पर आयोजित किया जाता है?

- Ans
- 1. चाँदनी चौक
  - 2. इंडिया गेट
  - 3. विजय चौक
  - 4. कर्नाट प्लेस

Question ID : 264330164811  
Option 1 ID : 264330646374  
Option 2 ID : 264330646371  
Option 3 ID : 264330646372  
Option 4 ID : 264330646373  
Status : Answered  
Chosen Option : 2

Q.2 जून \_\_\_\_\_ में, भारतीय रिज़र्व बैंक ने 'माइक्रोफाइनेंस के विनियमन पर परामर्शी दस्तावेज (Consultative Document on Regulation of Microfinance)' प्रकाशित किया था।

- Ans
- 1. 2019
  - 2. 2021
  - 3. 2020
  - 4. 2022

Question ID : 264330145233  
Option 1 ID : 264330569187  
Option 2 ID : 264330569189  
Option 3 ID : 264330569188  
Option 4 ID : 264330569190  
Status : Not Answered  
Chosen Option : --

Q.3 कौन-सी पवनें एशियाई महाद्वीप में हिमालय के उत्तरी अक्षांशों पर तिब्बती उच्चभूमि के लगभग समानांतर में चलती हैं?

- Ans
- 1. उत्तर पश्चिमी पवनें
  - 2. जेट धाराएँ
  - 3. व्यापारिक पवनें
  - 4. दक्षिण पश्चिम पवनें

Question ID : 26433064771  
Option 1 ID : 264330253676  
Option 2 ID : 264330253677  
Option 3 ID : 264330253679  
Option 4 ID : 264330253678  
Status : Answered  
Chosen Option : 1

Q.4 भारत के स्वास्थ्य एवं परिवार कल्याण मंत्रालय ने किशोर लड़कियों और लड़कों (56% लड़कियों और 30% लड़कों) में रक्ताल्पता के उच्च प्रसार और घटनाओं (high prevalence and incidence) की चुनौती से निपटने के लिए साप्ताहिक आयरन और फोलिक एसिड सप्लीमेंटेशन (WIFS) कार्यक्रम किस वर्ष में शुरू किया था?

- Ans
- 1. 2011
  - 2. 2013
  - 3. 2014
  - 4. 2012

Question ID : 264330145199  
Option 1 ID : 264330569051  
Option 2 ID : 264330569053  
Option 3 ID : 264330569054  
Option 4 ID : 264330569052  
Status : Not Answered  
Chosen Option : --

Q.5 पूर्व की ओर बहने वाली किस नदी की द्रोणी (river basin) झारखंड, छत्तीसगढ़ और उड़ीसा राज्यों को कवर करती है, और इसका जलग्रहण क्षेत्र 39,033 sq km है?

- Ans
- 1. ब्राह्मणी
  - 2. शारदा
  - 3. नागावली
  - 4. बैतरणी

Question ID : 264330131027  
Option 1 ID : 264330513220  
Option 2 ID : 264330513221  
Option 3 ID : 264330513219  
Option 4 ID : 264330513222  
Status : Answered  
Chosen Option : 4

Q.6 भारतीय संविधान को अंगीकृत किए जाने के समय इसमें कितने मूल अधिकार थे?

- Ans
- 1. सात
  - 2. पाँच
  - 3. छह
  - 4. आठ

Question ID : 264330111502  
Option 1 ID : 264330438095  
Option 2 ID : 264330438093  
Option 3 ID : 264330438094  
Option 4 ID : 264330438096  
Status : Answered  
Chosen Option : 1

Q.7 भारतीय मानसून के संबंध में निम्नलिखित में से कौन-सा कथन सत्य नहीं है?

- Ans
- 1. मानसूनी वर्षा जेट प्रवाह से प्रभावित होती है
  - 2. हिमालय मानसूनी वर्षा में महत्वपूर्ण भूमिका निभाता है
  - 3. मानसूनी वर्षा देश की उच्चावच विशेषताओं (relief features) से प्रभावित नहीं होती है
  - 4. मानसूनी वर्षा भारतीय कृषि की जीवन रेखा है

Question ID : 264330169989  
Option 1 ID : 264330666632  
Option 2 ID : 264330666634  
Option 3 ID : 264330666633  
Option 4 ID : 264330666631  
Status : Answered  
Chosen Option : 3

Q.8 निम्नलिखित में से कौन 1946 में कांग्रेस द्वारा गठित अंतरिम सरकार के उपाध्यक्ष थे?

- Ans
- 1. बलदेव सिंह
  - 2. वल्लभभाई पटेल
  - 3. जॉन मथाई
  - 4. जवाहर लाल नेहरू

Question ID : 264330112356  
Option 1 ID : 264330441511  
Option 2 ID : 264330441509  
Option 3 ID : 264330441512  
Option 4 ID : 264330441510  
Status : Answered  
Chosen Option : 3

Q.9 तारककेंद्र (centriole) का मुख्य कार्य क्या है?

- Ans
- 1. पादप कोशिका में दृढ़ता बनाए रखना
  - 2. गुणन के लिए पादप कोशिका की मदद करना
  - 3. जंतु कोशिका में कोशिका विभाजन में मदद करना
  - 4. जीवाणु कोशिका में खनिज संरचना को बनाए रखना

Question ID : 26433082209  
Option 1 ID : 264330322671  
Option 2 ID : 264330322672  
Option 3 ID : 264330322669  
Option 4 ID : 264330322670  
Status : Not Answered  
Chosen Option : --

Q.10 1957 में, किसने उस मॉडल को पुनर्परिभाषित किया, जिस मॉडल ने इलेक्ट्रॉन-युग्म स्थिरवैद्युत प्रतिकर्षण की सीमा के आधार पर अलग-अलग अणुओं के आकार को पूर्वानुमानित किया था?

- Ans
- 1. मार्केट और पॉलिंग (Marcet and Pauling)
  - 2. न्योहोम और गिलेस्पी (Nyholm and Gillespie)
  - 3. हाइटलर और लन्डन (Heitler and London)
  - 4. स्टौडिंगर और पेरी (Staudinger and Perey)

Question ID : 264330165460

Option 1 ID : 264330648921

Option 2 ID : 264330648922

Option 3 ID : 264330648920

Option 4 ID : 264330648919

Status : Not Answered

Chosen Option : --

Q.11 "ऑन राइटिंग: ए मेमॉयर ऑफ द क्राफ्ट (On Writing: A Memoir of the Craft)" पुस्तक के लेखक कौन हैं?

- Ans
- 1. एफ स्कॉट फिट्ज़गेराल्ड (F Scott Fitzgerald)
  - 2. क्लाइव स्टेपल्स लुईस (Clive Staples Lewis)
  - 3. अर्नेस्ट हेमिंग्वे (Ernest Hemingway)
  - 4. स्टीफ़न किंग (Stephen King)

Question ID : 26433071470

Option 1 ID : 264330280307

Option 2 ID : 264330280304

Option 3 ID : 264330280306

Option 4 ID : 264330280305

Status : Not Answered

Chosen Option : --

Q.12 भारत में ब्रिटिश शासन के दौरान, निम्नलिखित में से किस गवर्नर जनरल ने विलय नीति 'व्यपगत का सिद्धांतया हड़प नीति' तैयार किया था?

- Ans
- 1. लॉर्ड डलहौजी (Lord Dalhousie)
  - 2. लॉर्ड कॉर्नवालिस (Lord Cornwallis)
  - 3. वारेन हेस्टिंग्स (Warren Hastings)
  - 4. लॉर्ड कैनिंग (Lord Canning)

Question ID : 264330165380

Option 1 ID : 264330648600

Option 2 ID : 264330648602

Option 3 ID : 264330648599

Option 4 ID : 264330648601

Status : Answered

Chosen Option : 1

Q.13 भारत में श्रम बल सांख्यिकी (labour force statistics) प्रदान करने वाले व्यापक घरेलू सर्वेक्षण का नाम क्या है, जो पहली बार 1955 में आयोजित किया गया था?

- Ans
- 1. क्षेत्र फ्रेम स्थापना सर्वेक्षण (AFES)
  - 2. रोजगार-बेरोजगारी सर्वेक्षण (EUS)
  - 3. आवधिक श्रम बल सर्वेक्षण (PLFS)
  - 4. तिमाही रोजगार सर्वेक्षण (QES)

Question ID : 264330111360  
Option 1 ID : 264330437525  
Option 2 ID : 264330437528  
Option 3 ID : 264330437526  
Option 4 ID : 264330437527  
Status : Not Answered  
Chosen Option : --

Q.14 असद अली खान निम्नलिखित में से किस भारतीय वाद्य-यंत्र को बजाने के लिए जाने जाते थे?

- Ans
- 1. वायलिन
  - 2. सितार
  - 3. रुद्र वीणा
  - 4. तबला

Question ID : 26433074819  
Option 1 ID : 264330293365  
Option 2 ID : 264330293366  
Option 3 ID : 264330293367  
Option 4 ID : 264330293364  
Status : Not Answered  
Chosen Option : --

Q.15 1772 में डेनियल रदरफोर्ड ने किस गंधहीन, रंगहीन, स्वादहीन और रासायनिक रूप से अक्रिय गैस का आविष्कार किया था, और उसी समय सी.डब्ल्यू. शीले (CW Scheele) और एच. कैवेंडिश (H Cavendish) ने इसे स्वतंत्र रूप से पृथक किया था?

- Ans
- 1. आर्गन
  - 2. ऑक्सीजन
  - 3. फ्लोरीन
  - 4. नाइट्रोजन

Question ID : 264330110057  
Option 1 ID : 264330432508  
Option 2 ID : 264330432507  
Option 3 ID : 264330432506  
Option 4 ID : 264330432505  
Status : Not Answered  
Chosen Option : --



Q.16 निम्नलिखित में से कौन मुगल सम्राट शाहजहाँ के सिंहासन का उत्तराधिकारी था?

- Ans
- 1. शाह शुजा
  - 2. दारा शिकोह
  - 3. औरंगज़ेब
  - 4. मुराद बख्श

Question ID : 26433054201  
Option 1 ID : 264330211789  
Option 2 ID : 264330211790  
Option 3 ID : 264330211791  
Option 4 ID : 264330211788  
Status : Answered  
Chosen Option : 3

Q.17 \_\_\_\_\_ 2005 is referred to as the 'Right to Work' as it guaranteed 100 days of employment in a year by the Indian Government to people who are in need of and who are able to do work.

- Ans
- 1. Mohan Gandhi Regional Guarantee Act
  - 2. Mahatma Gandhi National Rural Employment Guarantee Act
  - 3. Mahatma Gandhi Regional Employment Guarantee Act
  - 4. Mahatma Gandhi Rural Employment Act

Question ID : 264330163259  
Option 1 ID : 264330640348  
Option 2 ID : 264330640347  
Option 3 ID : 264330640350  
Option 4 ID : 264330640349  
Status : Answered  
Chosen Option : 2

Q.18 मूल कर्तव्य संविधान के किस भाग में जोड़े गए हैं?

- Ans
- 1. भाग I-A
  - 2. भाग III-B
  - 3. भाग II-B
  - 4. भाग IV-A

Question ID : 264330116390  
Option 1 ID : 264330457645  
Option 2 ID : 264330457647  
Option 3 ID : 264330457646  
Option 4 ID : 264330457648  
Status : Answered  
Chosen Option : 4

Q.19 कौन-से बंदरगाह भारत के पश्चिमी तट पर स्थित हैं?

- Ans
- 1. कंडला बंदरगाह, मोरमुगाओ बंदरगाह, चेन्नई बंदरगाह
  - 2. कंडला बंदरगाह, मोरमुगाओ बंदरगाह, कोलकाता बंदरगाह
  - 3. कंडला बंदरगाह, हल्दिया बंदरगाह, कोच्चि बंदरगाह
  - 4. कंडला बंदरगाह, मोरमुगाओ बंदरगाह, कोच्चि बंदरगाह

Question ID : 264330132716  
Option 1 ID : 264330519962  
Option 2 ID : 264330519961  
Option 3 ID : 264330519960  
Option 4 ID : 264330519959  
Status : Answered  
Chosen Option : 4

Q.20 ऋणों और अग्रिमों, उधारराशियों की वसूली \_\_\_\_\_ का एक उदाहरण है।

- Ans
- 1. गैर-कर प्राप्तियों (non-tax receipts)
  - 2. राजस्व प्राप्तियों (revenue receipts)
  - 3. कर प्राप्तियों (tax receipts)
  - 4. पूंजीगत प्राप्तियों (capital receipts)

Question ID : 264330141433  
Option 1 ID : 264330554070  
Option 2 ID : 264330554067  
Option 3 ID : 264330554069  
Option 4 ID : 264330554068  
Status : Answered  
Chosen Option : 2

Q.21 निम्नलिखित में से किस प्रक्रिया में एक ठोस पदार्थ को गर्म करके वाष्पीकृत किया जाता है, और उसकी वाष्प को ठंडी सतह पर वापस ठोस के रूप में संघनित किया जाता है?

- Ans
- 1. आसवन
  - 2. वर्णलेखन (क्रोमैटोग्राफी)
  - 3. ऊर्ध्वपातन
  - 4. निस्पंदन

Question ID : 264330145220  
Option 1 ID : 264330569136  
Option 2 ID : 264330569137  
Option 3 ID : 264330569135  
Option 4 ID : 264330569138  
Status : Answered  
Chosen Option : 3

Q.22 थुल्लल नृत्य (Thullal dance) की उत्पत्ति निम्नलिखित में से किस राज्य में हुई?

- Ans
- 1. उत्तराखंड
  - 2. मणिपुर
  - 3. केरल
  - 4. गुजरात

Question ID : 264330164795  
Option 1 ID : 264330646307  
Option 2 ID : 264330646310  
Option 3 ID : 264330646308  
Option 4 ID : 264330646309  
Status : Answered  
Chosen Option : 3

Q.23 पुरुषों के लिए कबड्डी के मैदान की विमाएं (लंबाई-चौड़ाई) क्या होती हैं?

- Ans
- 1. 14 m × 10 m
  - 2. 12.50 m × 10 m
  - 3. 13 m × 10 m
  - 4. 14 m × 8 m

Question ID : 264330118471  
Option 1 ID : 264330465288  
Option 2 ID : 264330465285  
Option 3 ID : 264330465286  
Option 4 ID : 264330465287  
Status : Not Answered  
Chosen Option : --

Q.24 भारतीय भौतिक विज्ञानी सत्येंद्र नाथ बोस द्वारा दिए गए क्वॉंटम फॉर्मूलेशन के आधार पर अल्बर्ट आइंस्टीन ने किस वर्ष में पदार्थ की एक नई अवस्था, बोस-आइंस्टीन कंडेन्सेट (BEC) का अनुमान लगाया था?

- Ans  1. 1924  
 2. 1919  
 3. 1935  
 4. 1930

Question ID : 264330145219  
Option 1 ID : 264330569132  
Option 2 ID : 264330569131  
Option 3 ID : 264330569134  
Option 4 ID : 264330569133  
Status : Not Answered  
Chosen Option : --

Q.25 RIDF (आरआईडीएफ) का पूर्ण रूप क्या है?

- Ans  1. Rural Infrastructure Development Forum (रूरल इंफ्रास्ट्रक्चर डेवलपमेंट फोरम)  
 2. Road Infrastructure Development Fund (रोड इंफ्रास्ट्रक्चर डेवलपमेंट फंड)  
 3. Rural Infrastructure Development Fund (रूरल इंफ्रास्ट्रक्चर डेवलपमेंट फंड)  
 4. Rural Industries Development Fund (रूरल इंडस्ट्रीज़ डेवलपमेंट फंड)

Question ID : 264330112515  
Option 1 ID : 264330442146  
Option 2 ID : 264330442145  
Option 3 ID : 264330442148  
Option 4 ID : 264330442147  
Status : Answered  
Chosen Option : 1

Q.26 कितने ग्रह स्थलीय ग्रह (terrestrial planets) हैं?

- Ans  1. 3  
 2. 5  
 3. 6  
 4. 4

Question ID : 264330113351  
Option 1 ID : 264330445489  
Option 2 ID : 264330445491  
Option 3 ID : 264330445492  
Option 4 ID : 264330445490  
Status : Answered  
Chosen Option : 4

Q.27 निम्नलिखित में से किसने लोक और आदिवासी नृत्य के साथ भारतीय शास्त्रीय नृत्य में यूरोपीय रंगमंच तकनीकों (European theatrical techniques) का उपयोग किया?

- Ans
- 1. केलूचरण महापात्र
  - 2. बिरजू महाराज
  - 3. गुरु बिपिन सिंह
  - 4. उदय शंकर

Question ID : 264330145163  
Option 1 ID : 264330568907  
Option 2 ID : 264330568908  
Option 3 ID : 264330568910  
Option 4 ID : 264330568909  
Status : Answered  
Chosen Option : 3

Q.28 राज्य सभा का पदेन सभापति कौन होता है?

- Ans
- 1. राष्ट्रपति
  - 2. प्रधान मंत्री
  - 3. उप राष्ट्रपति
  - 4. भारत के महान्यायवादी

Question ID : 264330113417  
Option 1 ID : 264330445753  
Option 2 ID : 264330445754  
Option 3 ID : 264330445755  
Option 4 ID : 264330445756  
Status : Answered  
Chosen Option : 3

Q.29 बोनालू उत्सव (Bonalu festival) निम्नलिखित में से किस राज्य में मनाया जाता है?

- Ans
- 1. झारखंड
  - 2. गुजरात
  - 3. तेलंगाना
  - 4. उत्तर प्रदेश

Question ID : 26433064691  
Option 1 ID : 264330253356  
Option 2 ID : 264330253359  
Option 3 ID : 264330253357  
Option 4 ID : 264330253358  
Status : Answered  
Chosen Option : 3

Q.30 निम्नलिखित में से किसने एक अभियान की रूपरेखा तैयार की जिसे 'रॉलेट सत्याग्रह' के नाम से जाना गया?

- Ans
- 1. फिरोज शाह मेहता
  - 2. बाल गंगाधर तिलक
  - 3. महादेव गोविंद रानाडे
  - 4. महात्मा गांधी

Question ID : 264330106610  
Option 1 ID : 264330418744  
Option 2 ID : 264330418741  
Option 3 ID : 264330418742  
Option 4 ID : 264330418743  
Status : Answered  
Chosen Option : 3

Q.31 सोपारकर और उनकी विश्वव्यापी पहल 'डांस फॉर ए कॉज' का लोगो \_\_\_\_\_ सरकार द्वारा जारी एक आधिकारिक डाक टिकट पर मुद्रित किया जा रहा है।

- Ans
- 1. नेपाल
  - 2. श्रीलंका
  - 3. बांग्लादेश
  - 4. भूटान

Question ID : 26433054506  
Option 1 ID : 264330213008  
Option 2 ID : 264330213011  
Option 3 ID : 264330213010  
Option 4 ID : 264330213009  
Status : Not Answered  
Chosen Option : --

Q.32 दिए गए कथनों को पढ़िए और सही विकल्प का चयन कीजिए।

- i) राज्यपाल, राज्य सरकार का वास्तविक प्रमुख ( Real Head) होता है।
- ii) मुख्यमंत्री, राज्य सरकार के कानूनों और नीतियों को बनाने में महत्वपूर्ण भूमिका निभाता है।
- iii) राज्य के राज्यपाल की नियुक्ति राष्ट्रपति द्वारा की जाती है।

- Ans
- 1. केवल i
  - 2. केवल ii
  - 3. i और ii, दोनों
  - 4. ii और iii, दोनों

Question ID : 264330158695  
Option 1 ID : 264330622139  
Option 2 ID : 264330622140  
Option 3 ID : 264330622141  
Option 4 ID : 264330622142  
Status : Answered  
Chosen Option : 4

Q.33 'ए ग्रेन ऑफ सैंड इन दि ऑवरग्लास ऑफ टाइम (A Grain Of Sand In The Hourglass of Time)' किस भारतीय राजनेता की आत्मकथा है?

- Ans
- 1. मनमोहन सिंह
  - 2. आई के गुजराल
  - 3. अर्जुन सिंह
  - 4. एल के आडवाणी

Question ID : 264330145177  
Option 1 ID : 264330568966  
Option 2 ID : 264330568965  
Option 3 ID : 264330568964  
Option 4 ID : 264330568963  
Status : Not Answered  
Chosen Option : --

Q.34 निम्नलिखित में से किस मामले में उच्चतम न्यायालय ने संविधान के 'आधारभूत संरचना (basic structure)' को स्थापित करते हुए कहा कि राज्य-व्यवस्था (polity) की लोकतांत्रिक प्रकृति 'आधारभूत संरचना (basic structure)' का अनिवार्य घटक है?

- Ans
- 1. ए. के. गोपालन बनाम मद्रास राज्य
  - 2. सज्जन सिंह बनाम राजस्थान राज्य
  - 3. केशवानंद भारती बनाम केरल राज्य
  - 4. रोमेश थापर बनाम मद्रास राज्य

Question ID : 264330145273  
Option 1 ID : 264330569348  
Option 2 ID : 264330569350  
Option 3 ID : 264330569347  
Option 4 ID : 264330569349  
Status : Answered  
Chosen Option : 3

Q.35 दूसरी पंचवर्षीय योजना में भारतीय अर्थव्यवस्था की लक्षित वृद्धि दर क्या थी?

- Ans
- 1. 5.4%
  - 2. 2.8%
  - 3. 6.7%
  - 4. 4.5%

Question ID : 264330145230  
Option 1 ID : 264330569178  
Option 2 ID : 264330569175  
Option 3 ID : 264330569176  
Option 4 ID : 264330569177  
Status : Answered  
Chosen Option : 4

Q.36 लिंथोई चनंबम (Linthoi Chanambam) निम्नलिखित में से किस खेल से संबंधित है?

- Ans
- 1. क्रिकेट
  - 2. शतरंज
  - 3. जूडो
  - 4. बैडमिंटन

Question ID : 264330109688  
Option 1 ID : 264330431030  
Option 2 ID : 264330431032  
Option 3 ID : 264330431029  
Option 4 ID : 264330431031  
Status : Answered  
Chosen Option : 3

Q.37 प्रधानमंत्री सूक्ष्म खाद्य प्रसंस्करण उद्योग उन्नयन योजना के तहत एक स्वयं-सहायता समूह को सहायता के रूप में 'सीड कैपिटल (प्रारंभिक पूंजी)' के रूप में कितनी राशि प्रदान की जाती है?

- Ans
- 1. ₹30,000
  - 2. ₹40,000
  - 3. ₹20,000
  - 4. ₹50,000

Question ID : 26433064563  
Option 1 ID : 264330252845  
Option 2 ID : 264330252846  
Option 3 ID : 264330252844  
Option 4 ID : 264330252847  
Status : Answered  
Chosen Option : 4

Q.38 किस यौगिक की संरचना में 4-कार्बन अणुओं से युक्त एक संतृप्त लघु-श्रृंखला वसा अम्ल शामिल होता है, जो सामान्यतः पशु वसा और वनस्पति तेलों में ईस्टरीफाइड (esterified) रूप में पाया जाता है?

- Ans
- 1. प्रोपियोनिक अम्ल (Propionic acid)
  - 2. लैक्टिक अम्ल (Lactic acid)
  - 3. सक्सिनिक अम्ल (Succinic acid)
  - 4. ब्यूटाइरिक अम्ल (Butyric acid)

Question ID : 264330110056  
Option 1 ID : 264330432502  
Option 2 ID : 264330432504  
Option 3 ID : 264330432501  
Option 4 ID : 264330432503  
Status : Not Answered  
Chosen Option : --

Q.39 करेवा निर्माण (Karewa formations) \_\_\_\_\_ में पाए जाते हैं।

- Ans
- 1. कश्मीर हिमालय
  - 2. उत्तर पूर्वी पहाड़ियों
  - 3. तराई क्षेत्र
  - 4. उत्तरांचल हिमालय

Question ID : 264330119795  
Option 1 ID : 264330469455  
Option 2 ID : 264330469458  
Option 3 ID : 264330469457  
Option 4 ID : 264330469456  
Status : Not Answered  
Chosen Option : --

Q.40 1950 में भारतीय संविधान द्वारा मूल रूप से कितने मूल अधिकार प्रदान किए गए थे?

- Ans
- 1. नौ
  - 2. पांच
  - 3. सात
  - 4. छह

Question ID : 264330113393  
Option 1 ID : 264330445659  
Option 2 ID : 264330445660  
Option 3 ID : 264330445658  
Option 4 ID : 264330445657  
Status : Answered  
Chosen Option : 3

Q.41 भारत में पंचवर्षीय योजनाओं में न केवल योजना के पाँच वर्षों में प्राप्त किए जाने वाले विशिष्ट उद्देश्य निर्धारित किए गए, बल्कि यह भी निर्धारित किया गया कि 20 वर्षों की अवधि में क्या हासिल किया जाना है। इस दीर्घकालिक योजना को \_\_\_\_\_ कहा जाता है।

- Ans
- 1. सतत योजना (perpetual plan)
  - 2. परिप्रेक्ष्य योजना (perspective plan)
  - 3. बीस-वर्षीय योजना
  - 4. दो-दशकीय योजना

Question ID : 264330168853  
Option 1 ID : 264330662226  
Option 2 ID : 264330662225  
Option 3 ID : 264330662223  
Option 4 ID : 264330662224  
Status : Answered  
Chosen Option : 2

Q.42 निम्नलिखित में से किस बहमनी सुल्तान ने अपनी राजधानी गुलबर्गा से बीदर स्थानांतरित की थी?

- Ans
- 1. मुज़ाहिद शाह
  - 2. अहमद शाह
  - 3. फिरोज शाह
  - 4. हुमायूं

Question ID : 264330109015  
Option 1 ID : 264330428338  
Option 2 ID : 264330428339  
Option 3 ID : 264330428337  
Option 4 ID : 264330428340  
Status : Answered  
Chosen Option : 2

Q.43 आप उन दवाओं को क्या कहते हैं, जो ग्राही साइट (receptor site) से जुड़ती हैं, और इसकी प्राकृतिक कार्यप्रणाली को नियंत्रित करती हैं?

- Ans
- 1. अवसादक (Depressants)
  - 2. एंटागोनिस्ट (Antagonist)
  - 3. एगोनिस्ट (Agonist)
  - 4. प्रति-अवसादक (Antidepressants)

Question ID : 264330145208  
Option 1 ID : 264330569087  
Option 2 ID : 264330569088  
Option 3 ID : 264330569089  
Option 4 ID : 264330569090  
Status : Not Answered  
Chosen Option : --



Q.44 संगीत के दिग्गज तानसेन, अकबर से पूर्व निम्नलिखित में से किस दरबार में दरबारी गायक थे?

- Ans
- 1. गांधार
  - 2. मगध
  - 3. रीवा
  - 4. बनारस

Question ID : 264330145170  
Option 1 ID : 264330568938  
Option 2 ID : 264330568935  
Option 3 ID : 264330568936  
Option 4 ID : 264330568937  
Status : Not Answered  
Chosen Option : --

Q.45 निम्नलिखित में से किसने बुद्ध की जीवनी, बुद्धचरित्र लिखी थी?

- Ans
- 1. वसुमित्र
  - 2. अश्वघोष
  - 3. चरक
  - 4. नागार्जुन

Question ID : 264330165578  
Option 1 ID : 264330649391  
Option 2 ID : 264330649393  
Option 3 ID : 264330649394  
Option 4 ID : 264330649392  
Status : Answered  
Chosen Option : 2

Q.46 कोशिका में भरे हुए तरल मैट्रिक्स (fluid matrix) को क्या कहा जाता है?

- Ans
- 1. गॉल्जी काय
  - 2. प्लाज्मिड
  - 3. राइबोसोम
  - 4. कोशिका द्रव्य

Question ID : 26433064758  
Option 1 ID : 264330253625  
Option 2 ID : 264330253627  
Option 3 ID : 264330253624  
Option 4 ID : 264330253626  
Status : Answered  
Chosen Option : 4

Q.47 ऐहोल में रावण फाड़ी गुफा (Ravana Phadi cave) और दुर्गा मंदिर (Durga Temple) किस राजवंश की स्थापत्य शैली को चित्रित करते हैं?

- Ans
- 1. विजयनगर
  - 2. पल्लव
  - 3. चालुक्य
  - 4. होयसल

Question ID : 264330141826  
Option 1 ID : 264330555626  
Option 2 ID : 264330555625  
Option 3 ID : 264330555623  
Option 4 ID : 264330555624  
Status : Not Answered  
Chosen Option : --

Q.48 2015 में, प्रख्यात नृत्यांगना (danseuse) और \_\_\_\_\_ प्रतिपादक (exponent) पद्मा सुब्रह्मण्यम को राज्य पर्यटन विभाग द्वारा स्थापित केरल के प्रतिष्ठित कोरियोग्राफी पुरस्कार 'निशागंधी पुरस्कार (Nishagandhi Puraskaram)' के लिए चुना गया था।

- Ans  1. भरतनाट्यम्  
 2. कथकली  
 3. कुचिपुड़ी  
 4. सत्रीया

Question ID : 26433054509  
Option 1 ID : 264330213022  
Option 2 ID : 264330213021  
Option 3 ID : 264330213020  
Option 4 ID : 264330213023  
Status : Answered  
Chosen Option : 3

Q.49 ओलंपिक शीतकालीन खेल 2026 \_\_\_\_\_ में खेले जाएंगे।

- Ans  1. ब्रिस्बेन (Brisbane)  
 2. मिलानो कॉर्टिना (Milano Cortina)  
 3. लॉस एंजेल्स (Los Angeles)  
 4. पेरिस (Paris)

Question ID : 264330109850  
Option 1 ID : 264330431680  
Option 2 ID : 264330431678  
Option 3 ID : 264330431679  
Option 4 ID : 264330431677  
Status : Answered  
Chosen Option : 4

Q.50 निम्न में से कौन अंतरराष्ट्रीय ओलंपिक समिति (IOC) के प्रथम अध्यक्ष थे?

- Ans  1. लॉर्ड किलेनिन (Lord Killanin)  
 2. पियरे, बैरन डे कोबेर्टिन (Pierre, Baron de Coubertin)  
 3. एवरी ब्रंडेज (Avery Brundage)  
 4. डेमेट्रियोस विकेलस (Demetrius Vikelas)

Question ID : 26433059387  
Option 1 ID : 264330232417  
Option 2 ID : 264330232416  
Option 3 ID : 264330232419  
Option 4 ID : 264330232418  
Status : Not Answered  
Chosen Option : --

Q.1 दी गई तालिका का अध्ययन करें, और नीचे दिए गए प्रश्न का उत्तर दें।  
निम्न तालिका 6 अलग-अलग स्कूलों की 6 अलग-अलग कक्षाओं में पढ़ने वाले विद्यार्थियों की संख्या को दर्शाती है।

स्कूल	V	VI	VII	VIII	IX	X
P	152	160	145	156	147	144
Q	148	166	150	155	157	143
R	161	152	140	145	143	165
S	159	142	149	140	142	168
T	147	144	158	163	154	150
U	150	160	162	160	160	140
कुल	917	924	904	919	903	910

सभी स्कूलों में मिलाकर किस कक्षा में विद्यार्थियों की संख्या सर्वाधिक है?

- Ans  1. X  
 2. VI  
 3. V  
 4. VII

Question ID : 264330157724

Option 1 ID : 264330618258

Option 2 ID : 264330618256

Option 3 ID : 264330618255

Option 4 ID : 264330618257

Status : Answered

Chosen Option : 2

Q.2 दी गई तालिका 2022 - 2023 के दौरान 4 स्कूलों के विद्यार्थियों की संख्या को दर्शाती है।

स्कूल	विद्यार्थियों की कुल संख्या	लड़के	लड़कियाँ
A	2060	1339	721
B	1880	1034	846
C	2200	990	1210
D	1680	924	756

स्कूल B में लड़कियों का प्रतिशत कितना है?

- Ans  1. 55%  
 2. 65%  
 3. 60%  
 4. 45%

Question ID : 264330165489

Option 1 ID : 264330649036

Option 2 ID : 264330649038

Option 3 ID : 264330649037

Option 4 ID : 264330649035

Status : Answered

Chosen Option : 4

Q.3 अवि ने भार्गव को एक घर 10% के लाभ पर बेचा, और भार्गव ने इसे चेतन को 20% के लाभ पर बेच दिया। यदि चेतन ने इसके लिए ₹2,64,00,000 का भुगतान किया, तो अवि ने इसे किस मूल्य पर खरीदा होगा?

- Ans
- 1. ₹2,30,00,000
  - 2. ₹1,75,00,000
  - 3. ₹2,00,00,000
  - 4. ₹2,50,00,000

Question ID : 264330126573

Option 1 ID : 264330495966

Option 2 ID : 264330495965

Option 3 ID : 264330495967

Option 4 ID : 264330495964

Status : Answered

Chosen Option : 3

Q.4 एक इनलेट पाइप एक खाली टैंक को 3.6 घंटे में भर सकता है, जबकि एक आउटलेट पाइप पूरी तरह से भरे टैंक को 6.3 घंटे में खाली कर सकता है। यदि टैंक खाली होने पर दोनों पाइप एक साथ खोले जाते हैं, तो टैंक कितने घंटे में पूरी तरह से भर जाएगा?

- Ans
- 1. 8.1
  - 2. 8.7
  - 3. 8.4
  - 4. 9.0

Question ID : 264330103286

Option 1 ID : 264330405449

Option 2 ID : 264330405451

Option 3 ID : 264330405450

Option 4 ID : 264330405452

Status : Answered

Chosen Option : 3

Q.5 जब A अकेले किसी कार्य को करता है, तो उसे A और B द्वारा एक साथ मिलकर उस कार्य को करने में लगने वाले समय से 25 दिन अधिक लगते हैं। दूसरी ओर, B को अकेले उसी कार्य को करने में A और B द्वारा एक साथ मिलकर उसी कार्य को करने में लगने वाले समय से 16 दिन अधिक लगते हैं। A और B एक साथ मिलकर कार्य करते हुए उस कार्य को कितने दिनों में पूरा करेंगे?

- Ans
- 1. 23
  - 2. 20
  - 3. 22
  - 4. 24

Question ID : 264330131527

Option 1 ID : 264330515212

Option 2 ID : 264330515214

Option 3 ID : 264330515213

Option 4 ID : 264330515211

Status : Answered

Chosen Option : 2

Q.6 PQR एक त्रिभुज है। अंतः कोण  $\angle Q$  और बाह्य कोण  $\angle R$  के समद्विभाजक परस्पर S पर प्रतिच्छेदित करते हैं। यदि  $\angle QSR = 40^\circ$  है, तो  $\angle P$  का मान ज्ञात कीजिए।

- Ans
- 1.  $40^\circ$
  - 2.  $80^\circ$
  - 3.  $60^\circ$
  - 4.  $30^\circ$

Question ID : 264330165660

Option 1 ID : 264330649720

Option 2 ID : 264330649722

Option 3 ID : 264330649721

Option 4 ID : 264330649719

Status : Answered

Chosen Option : 2

Q.7 यदि हवा भरने के कारण एक अर्धगोलाकार गुब्बारे की त्रिज्या 4 cm से बढ़कर 7 cm हो जाती है, तो नए गुब्बारे के पृष्ठीय क्षेत्रफल और मूल गुब्बारे के पृष्ठीय क्षेत्रफल का अनुपात ज्ञात कीजिए।

- Ans
- 1. 49 : 16
  - 2. 16 : 21
  - 3. 20 : 49
  - 4. 21 : 12

Question ID : 264330103638

Option 1 ID : 264330406857

Option 2 ID : 264330406860

Option 3 ID : 264330406859

Option 4 ID : 264330406858

Status : Answered

Chosen Option : 1

Q.8

निम्न का मान ज्ञात कीजिए।  $5\frac{1}{3} - \left\{4\frac{1}{3} + \left(3\frac{1}{3} \div 2\frac{1}{3} - \frac{1}{3}\right)\right\}$

- Ans
- 1.  $\frac{2}{3}$
  - 2.  $-\frac{2}{3}$
  - 3.  $\frac{1}{3}$
  - 4.  $-\frac{1}{3}$

Question ID : 26433074218

Option 1 ID : 264330290993

Option 2 ID : 264330290992

Option 3 ID : 264330290995

Option 4 ID : 264330290994

Status : Answered

Chosen Option : 2

Q.9 एक नाव धारा की दिशा में 72 km की दूरी 6 घंटे में तय करती है, जबकि धारा की विपरीत दिशा में इतनी ही दूरी तय करने में उसे 12 घंटे लगते हैं। शांत जल में नाव की चाल ज्ञात कीजिए।

- Ans
- 1. 8 km/h
  - 2. 10 km/h
  - 3. 9 km/h
  - 4. 6 km/h

Question ID : 264330145097  
Option 1 ID : 264330568643  
Option 2 ID : 264330568645  
Option 3 ID : 264330568646  
Option 4 ID : 264330568644  
Status : Answered  
Chosen Option : 3

Q.10 एक गोले का आयतन  $130977 \text{ cm}^3$  दिया गया है। इसका पृष्ठीय क्षेत्रफल ( $\text{cm}^2$  में) कितना होगा?

- Ans
- 1. 16847
  - 2. 14274
  - 3. 17424
  - 4. 12474

Question ID : 264330145111  
Option 1 ID : 264330568701  
Option 2 ID : 264330568699  
Option 3 ID : 264330568700  
Option 4 ID : 264330568702  
Status : Answered  
Chosen Option : 4

Q.11  $\frac{1 - \frac{3}{7} \div \frac{9}{49} \times \frac{3}{14}}{1 + \frac{3}{5} \div \frac{1}{25} \times \frac{1}{30}}$  का मान ज्ञात कीजिए।

- Ans
- 1.  $\frac{1}{3}$
  - 2.  $\frac{1}{7}$
  - 3.  $\frac{1}{5}$
  - 4.  $\frac{1}{6}$

Question ID : 26433074445  
Option 1 ID : 264330291871  
Option 2 ID : 264330291869  
Option 3 ID : 264330291868  
Option 4 ID : 264330291870  
Status : Answered  
Chosen Option : 1

Q.12 दो संख्याओं का गुणनफल 20000 है। यदि उनका लघुत्तम समापवर्त्य (LCM) 800 है, तो उनका महत्तम समापवर्तक (HCF) क्या है?

- Ans  1. 30  
 2. 25  
 3. 35  
 4. 20

Question ID : 26433073069  
Option 1 ID : 264330286469  
Option 2 ID : 264330286470  
Option 3 ID : 264330286471  
Option 4 ID : 264330286468  
Status : Answered  
Chosen Option : 2

Q.13 एक वृत्त की त्रिज्या 1.75 cm है। वृत्त की परिधि ज्ञात कीजिए।

$$(\pi = \frac{22}{7} \text{ लीजिए})$$

- Ans  1. 11 cm  
 2. 9.63 cm  
 3. 22 cm  
 4. 5.5 cm

Question ID : 264330165442  
Option 1 ID : 264330648847  
Option 2 ID : 264330648850  
Option 3 ID : 264330648849  
Option 4 ID : 264330648848  
Status : Answered  
Chosen Option : 1

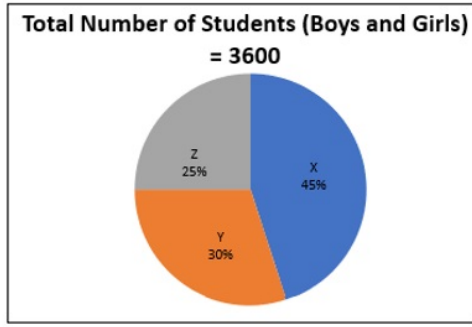
Q.14  $(\frac{1}{4}) \times (\frac{1}{9}) \times (\frac{1}{25}) \times (\frac{1}{49}) \div (\frac{36}{121})$  का वर्गमूल \_\_\_\_\_ है।

- Ans  1.  $\frac{1}{1260}$   
 2.  $\frac{1260}{11}$   
 3.  $\frac{11}{1260}$   
 4.  $\frac{11}{12.60}$

Question ID : 26433063987  
Option 1 ID : 264330250541  
Option 2 ID : 264330250542  
Option 3 ID : 264330250540  
Option 4 ID : 264330250543  
Status : Answered  
Chosen Option : 3

Q.15 दिए गए पाई-चार्ट का अध्ययन कीजिए और निम्नलिखित प्रश्न का उत्तर दीजिए।

पाई-चार्ट, वर्ष 2022 में विभिन्न स्कूलों (X, Y, Z) के कक्षा 10 में पढ़ने वाले छात्रों (लड़के और लड़कियां) की संख्या को दर्शाता है।



Total Number of Students (Boys and Girls) = 3600 , छात्रों की कुल संख्या (लड़के और लड़कियां) = 3600

स्कूल Y और Z में एक साथ मिलाकर छात्रों (लड़कों और लड़कियों) की कुल संख्या और स्कूल X और Y में एक साथ मिलाकर छात्रों (लड़कों और लड़कियों) की कुल संख्या के बीच कितना अंतर है?

Ans ✓ 1. 720

✗ 2. 840

✗ 3. 820

✗ 4. 780

Question ID : 264330158277

Option 1 ID : 264330620470

Option 2 ID : 264330620467

Option 3 ID : 264330620468

Option 4 ID : 264330620469

Status : Not Answered

Chosen Option : --

Q.16 दो संख्याएं 12 : 7 के अनुपात में हैं। यदि उनका महत्तम समापवर्तक (HCF) 25 है, तो संख्याएं ज्ञात कीजिए।

Ans ✗ 1. 175, 120

✓ 2. 300, 175

✗ 3. 300, 50

✗ 4. 225, 135

Question ID : 264330102309

Option 1 ID : 264330401702

Option 2 ID : 264330401704

Option 3 ID : 264330401703

Option 4 ID : 264330401701

Status : Answered

Chosen Option : 2



Q.17 यदि  $x^4 + y^4 = x^2y^2$  है, तो  $x^6 + y^6$  का मान क्या होगा?

- Ans
- 1. 1
  - 2. 3
  - 3. 2
  - 4. 0

Question ID : 264330157762  
Option 1 ID : 264330618408  
Option 2 ID : 264330618410  
Option 3 ID : 264330618409  
Option 4 ID : 264330618407  
Status : Not Answered  
Chosen Option : --

Q.18 यदि  $a + \frac{1}{a} = 3$  है, तो  $a^4 + \frac{1}{a^4}$  का मान क्या होगा?

- Ans
- 1. 48
  - 2. 81
  - 3. 47
  - 4. 27

Question ID : 264330157776  
Option 1 ID : 264330618464  
Option 2 ID : 264330618463  
Option 3 ID : 264330618465  
Option 4 ID : 264330618466  
Status : Answered  
Chosen Option : 3

Q.19 यदि  $k(\tan 45^\circ \sin 60^\circ) = \cos 60^\circ \cot 30^\circ$  है, तो k का मान क्या है?

- Ans
- 1.  $\sqrt{3}$
  - 2. 1
  - 3.  $\frac{1}{\sqrt{3}}$
  - 4. 2

Question ID : 264330157746  
Option 1 ID : 264330618344  
Option 2 ID : 264330618343  
Option 3 ID : 264330618345  
Option 4 ID : 264330618346  
Status : Answered  
Chosen Option : 2

Q.20 निम्न तालिका चार अलग-अलग शहरों हैदराबाद, मुंबई, चेन्नई और पुणे की मोबाइल-व्यसनी जनसंख्या और उनके बीच पुरुषों एवं महिलाओं का अनुपात दर्शाती है।

शहर	मोबाइल-व्यसनी जनसंख्या	पुरुष : महिला
हैदराबाद	2,20,000	7 : 8
मुंबई	3,50,000	12 : 13
चेन्नई	2,00,000	11 : 9
पुणे	1,50,000	9 : 11

चेन्नई में व्यसनी पुरुषों की कुल संख्या ज्ञात करें।

- Ans
- 1. 1,00,000
  - 2. 80,000
  - 3. 1,20,000
  - 4. 1,10,000

Question ID : 264330167242  
 Option 1 ID : 264330655963  
 Option 2 ID : 264330655966  
 Option 3 ID : 264330655965  
 Option 4 ID : 264330655964  
 Status : Answered  
 Chosen Option : 4

Q.21  $\frac{\cos 37^\circ}{\sin 53^\circ} - \cos 47^\circ \operatorname{cosec} 43^\circ$  का मान ज्ञात कीजिए।

- Ans
- 1. 0
  - 2. -1
  - 3. 1
  - 4. 2

Question ID : 264330158293  
 Option 1 ID : 264330620533  
 Option 2 ID : 264330620534  
 Option 3 ID : 264330620532  
 Option 4 ID : 264330620531  
 Status : Answered  
 Chosen Option : 1

Q.22 एक धनराशि को अर्ध-वार्षिक चक्रवृद्धि आधार पर गणनीय 10% वार्षिक ब्याज दर पर 18 महीने के लिए निवेश किया गया। यदि परिपक्वता पर देय राशि ₹64,827 थी, तो निवेश की गई राशि ज्ञात कीजिए।

- Ans
- 1. ₹55,600
  - 2. ₹56,000
  - 3. ₹56,800
  - 4. ₹56,500

Question ID : 264330145055  
 Option 1 ID : 264330568476  
 Option 2 ID : 264330568475  
 Option 3 ID : 264330568478  
 Option 4 ID : 264330568477  
 Status : Not Answered  
 Chosen Option : --

Q.23 एक इंसपेक्टर, एक चोर से 288 मीटर पीछे है। इंसपेक्टर एक मिनट में 42 मीटर दौड़ता है, और चोर एक मिनट में 30 मीटर दौड़ता है। इंसपेक्टर कितने समय में चोर को पकड़ लेगा?

- Ans  1. 24 मिनट  
 2. 21 मिनट  
 3. 20 मिनट  
 4. 19 मिनट

Question ID : 264330145067  
Option 1 ID : 264330568526  
Option 2 ID : 264330568524  
Option 3 ID : 264330568525  
Option 4 ID : 264330568523  
Status : Answered  
Chosen Option : 1

Q.24 E, F, G और H, किसी वृत्त की परिधि पर स्थित चार बिंदु हैं। यदि  $\angle FGH = 57^\circ$  है, तो  $\angle HEF$  का माप कितना होगा?

- Ans  1.  $93^\circ$   
 2.  $33^\circ$   
 3.  $143^\circ$   
 4.  $123^\circ$

Question ID : 264330165694  
Option 1 ID : 264330649856  
Option 2 ID : 264330649855  
Option 3 ID : 264330649858  
Option 4 ID : 264330649857  
Status : Answered  
Chosen Option : 4

Q.25 नीचे दी गई तालिका परिवहन के विभिन्न साधनों द्वारा स्कूल आने वाले विद्यार्थियों की संख्या को दर्शाती है:

परिवहन के साधन	स्कूल बस	साइकिल	पैदल	अन्य वाहन
लड़कों की संख्या	80	280	130	200
लड़कियों की संख्या	140	190	90	250

विद्यार्थियों की अधिकतम संख्या द्वारा परिवहन के किस साधन का उपयोग किया जाता है?

- Ans  1. अन्य वाहन  
 2. साइकिल  
 3. पैदल  
 4. स्कूल बस

Question ID : 264330165073  
Option 1 ID : 264330647422  
Option 2 ID : 264330647420  
Option 3 ID : 264330647421  
Option 4 ID : 264330647419  
Status : Answered  
Chosen Option : 1

Q.26 32 और 162 का मध्यानुपाती (mean proportion) ज्ञात करें।

Ans  1. 97

2. 72

3. 65

4. 99

Question ID : 264330103970

Option 1 ID : 264330408181

Option 2 ID : 264330408183

Option 3 ID : 264330408182

Option 4 ID : 264330408184

Status : Answered

Chosen Option : 2

Q.27 एक पंसारी को ₹12 प्रति kg और ₹25 प्रति kg के मूल्य वाले गेहूँ को किस अनुपात में मिलाना चाहिए, ताकि प्राप्त मिश्रण का मूल्य ₹20 प्रति kg हो?

Ans  1. 5 : 8

2. 3 : 5

3. 5 : 7

4. 8 : 3

Question ID : 264330104488

Option 1 ID : 264330410254

Option 2 ID : 264330410253

Option 3 ID : 264330410256

Option 4 ID : 264330410255

Status : Answered

Chosen Option : 1

Q.28  $\Delta ABC$  में,  $\angle B = 90^\circ$  और  $AB : BC = 1 : 2$  है।  $\cos A + \tan C$  का मान \_\_\_\_\_ है।

Ans  1.  $\frac{2+\sqrt{5}}{2\sqrt{5}}$

2.  $\frac{1+\sqrt{5}}{2\sqrt{5}}$

3.  $\frac{5+\sqrt{5}}{2\sqrt{5}}$

4.  $\frac{2\sqrt{5}}{2+\sqrt{5}}$

Question ID : 264330145131

Option 1 ID : 264330568782

Option 2 ID : 264330568781

Option 3 ID : 264330568780

Option 4 ID : 264330568779

Status : Answered

Chosen Option : 1

Q.29 A और B, ₹36,000 में एक प्रोजेक्ट को पूरा करने की जिम्मेदारी लेते हैं। A अकेला उस कार्य को 25 दिनों में कर सकता है। उन्होंने 5 दिनों तक एक साथ कार्य किया। अगले पांच दिनों तक, B ने अकेले कार्य किया। उसके बाद, A ने B को हटाकर स्वयं शेष कार्य को 5 दिनों में पूरा किया। आय में A का हिस्सा कितना है?

- Ans
- 1. ₹14,600
  - 2. ₹21,400
  - 3. ₹14,400
  - 4. ₹21,600

Question ID : 26433087395  
Option 1 ID : 264330343219  
Option 2 ID : 264330343220  
Option 3 ID : 264330343217  
Option 4 ID : 264330343218  
Status : Not Answered  
Chosen Option : --

Q.30 दो उम्मीदवारों के बीच हुए एक चुनाव में, 80% मतदाताओं ने मतदान किया, जिनमें से 5% मत अमान्य घोषित कर दिए गए। एक उम्मीदवार को 9500 मत मिले, जो वैध मतों के 80% के बराबर थे। उस चुनाव में नामांकित मतदाताओं की कुल संख्या ज्ञात कीजिए।

- Ans
- 1. 16100
  - 2. 15625
  - 3. 15100
  - 4. 14780

Question ID : 264330158382  
Option 1 ID : 264330620890  
Option 2 ID : 264330620889  
Option 3 ID : 264330620888  
Option 4 ID : 264330620887  
Status : Answered  
Chosen Option : 2

Q.31 आनंदी ने एक इलेक्ट्रॉनिक स्टोर से Rs.4,400 में एक स्मार्ट घड़ी खरीदी। चूंकि उसके पास कम पैसे थे, उसने डाउन पेमेंट के लिए Rs.2,000 का भुगतान किया, और दुकानदार ने उसे 1 महीने के बाद Rs.2,440 का भुगतान करने का विकल्प दिया। इस किश्त विकल्प में दुकानदार किस दर से साधारण ब्याज वसूल करेगा?

- Ans
- 1. 10%
  - 2. 20%
  - 3. 15%
  - 4. 22%

Question ID : 26433063338  
Option 1 ID : 264330248006  
Option 2 ID : 264330248005  
Option 3 ID : 264330248004  
Option 4 ID : 264330248007  
Status : Not Answered  
Chosen Option : --

Q.32 शांत जल में एक नाव की चाल 6 km/h है, और धारा की चाल 2.5 km/h है। एक व्यक्ति नाव से 59.5 किलोमीटर की दूरी पर स्थित एक स्थान पर जाता है, और प्रारंभिक बिंदु पर वापस आता है। उसके द्वारा लिया गया कुल समय कितना होगा?

- Ans
- 1. 16 घंटे
  - 2. 24 घंटे
  - 3. 22 घंटे
  - 4. 18 घंटे

Question ID : 264330103627  
Option 1 ID : 264330406813  
Option 2 ID : 264330406816  
Option 3 ID : 264330406815  
Option 4 ID : 264330406814  
Status : Answered  
Chosen Option : 2

Q.33 निम्न में से कौन-सा  $\frac{1}{5}\%$  के समतुल्य भिन्न है?

- Ans
- 1.  $\frac{1}{200}$
  - 2.  $\frac{1}{125}$
  - 3.  $\frac{1}{500}$
  - 4.  $\frac{1}{40}$

Question ID : 264330145076  
Option 1 ID : 264330568561  
Option 2 ID : 264330568560  
Option 3 ID : 264330568562  
Option 4 ID : 264330568559  
Status : Answered  
Chosen Option : 3

Q.34 एक वर्गाकार-आधार वाले एक समकोणीय पिरामिड का संपूर्ण पृष्ठीय क्षेत्रफल  $1536 \text{ m}^2$  है, जिसमें से 37.5% पिरामिड के आधार का क्षेत्रफल है। इस पिरामिड का आयतन ( $\text{m}^3$  में) ज्ञात करें।

- Ans
- 1. 3048
  - 2. 3108
  - 3. 3144
  - 4. 3072

Question ID : 264330122882  
Option 1 ID : 264330481596  
Option 2 ID : 264330481595  
Option 3 ID : 264330481597  
Option 4 ID : 264330481598  
Status : Not Answered  
Chosen Option : --

Q.35 एक लम्ब वृत्तीय शंकु के आधार की त्रिज्या 5 cm है। उसकी तिर्यक् ऊंचाई 13 cm है। उसका आयतन (cm<sup>3</sup> में, 1 दशमलव स्थान तक पूर्णांकित) ज्ञात कीजिए। ( $\pi = \frac{22}{7}$  लें)

- Ans  1. 314.3  
 2. 323.4  
 3. 328.6  
 4. 340.5

Question ID : 264330145116  
Option 1 ID : 264330568722  
Option 2 ID : 264330568721  
Option 3 ID : 264330568720  
Option 4 ID : 264330568719  
Status : Answered  
Chosen Option : 1

Q.36 उस गोले का कुल पृष्ठीय क्षेत्रफल ज्ञात कीजिए जिसका आयतन  $\frac{256}{3} \pi \text{ cm}^3$  है।

- Ans  1.  $38 \pi \text{ cm}^2$   
 2.  $56 \pi \text{ cm}^2$   
 3.  $48 \pi \text{ cm}^2$   
 4.  $64 \pi \text{ cm}^2$

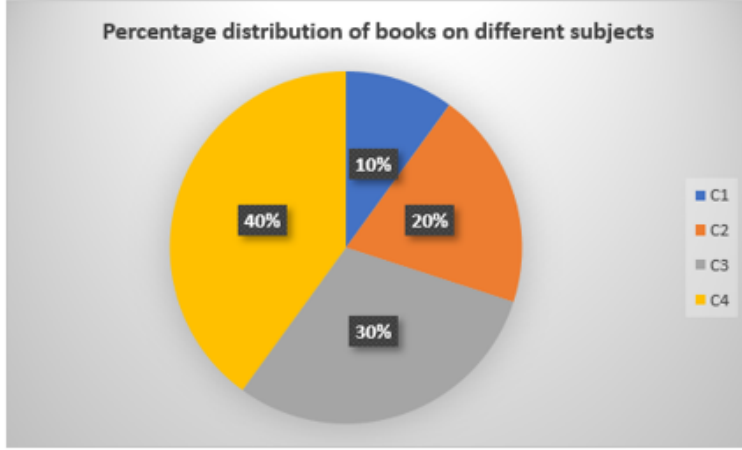
Question ID : 264330103635  
Option 1 ID : 264330406848  
Option 2 ID : 264330406846  
Option 3 ID : 264330406847  
Option 4 ID : 264330406845  
Status : Answered  
Chosen Option : 4

Q.37 माना C एक वृत्त है, जिसका केंद्र O और त्रिज्या 5 cm है। माना कि PQ इस वृत्त की एक स्पर्शरेखा है, और A इसका स्पर्श बिंदु है। माना B, PQ पर इस प्रकार स्थित एक अन्य बिंदु है कि AB की लंबाई 12 cm है। यदि O और B को मिलाने वाली रेखा वृत्त को R पर काटती है, तो BR की लंबाई (cm में) ज्ञात कीजिए।

- Ans  1. 6  
 2. 2  
 3. 8  
 4. 13

Question ID : 264330165413  
Option 1 ID : 264330648734  
Option 2 ID : 264330648731  
Option 3 ID : 264330648733  
Option 4 ID : 264330648732  
Status : Answered  
Chosen Option : 4

Q.38 दिए गए ग्राफ का अध्ययन कीजिए और निम्नलिखित प्रश्न का उत्तर दीजिए।  
दिया गया ग्राफ किसी व्यक्ति के पुस्तकालय में विभिन्न विषयों से संबंधित पुस्तकों का प्रतिशत दर्शाता है।



Percentage distribution of books on different subjects = विभिन्न विषयों से संबंधित पुस्तकों का प्रतिशत वितरण

यदि पुस्तकों की कुल संख्या 60 है, तो विषय C1 की पुस्तकों की संख्या का, प्रति विषय पुस्तकों की औसत संख्या से अनुपात कितना है?

- Ans
- 1.2 : 3
  - 2.3 : 7
  - 3.3 : 5
  - 4.2 : 5

Question ID : 264330157066

Option 1 ID : 264330615636

Option 2 ID : 264330615638

Option 3 ID : 264330615637

Option 4 ID : 264330615635

Status : Not Answered

Chosen Option : --



Q.39 तीन लड़कों की औसत आयु 25 वर्ष है, और उनकी आयु का अनुपात 3 : 5 : 7 है। सबसे छोटे लड़के की आयु ज्ञात कीजिए।

- Ans  1. 15 वर्ष  
 2. 21 वर्ष  
 3. 12 वर्ष  
 4. 24 वर्ष

Question ID : 264330145048  
Option 1 ID : 264330568448  
Option 2 ID : 264330568449  
Option 3 ID : 264330568447  
Option 4 ID : 264330568450  
Status : Answered  
Chosen Option : 1

Q.40 एक व्यापारी अपने माल को क्रय मूल्य से 10% हानि पर बेचता है, लेकिन 25% कम वजन के बांट (वजन) का उपयोग करता है। उसका प्रतिशत लाभ कितना होगा?

- Ans  1. 25%  
 2. 20%  
 3. 35%  
 4. 15%

Question ID : 264330102345  
Option 1 ID : 264330401848  
Option 2 ID : 264330401845  
Option 3 ID : 264330401847  
Option 4 ID : 264330401846  
Status : Answered  
Chosen Option : 2

Q.41 दी गई तालिका का अध्ययन कीजिए, और नीचे दिए गए प्रश्न का उत्तर दीजिए।  
निम्न तालिका में दिया गया डेटा दिसंबर 2022 महीने के लिए है।

कंपनी	कर्मचारियों की कुल संख्या	महिला कर्मचारियों की संख्या
P	4560	2210
Q	4258	1650
R	3052	1280
S	4350	1920

कंपनी P में पुरुष कर्मचारियों की संख्या, और कंपनी R में पुरुष कर्मचारियों की संख्या के बीच का अंतर कितना है?

- Ans  1. 605  
 2. 578  
 3. 580  
 4. 592

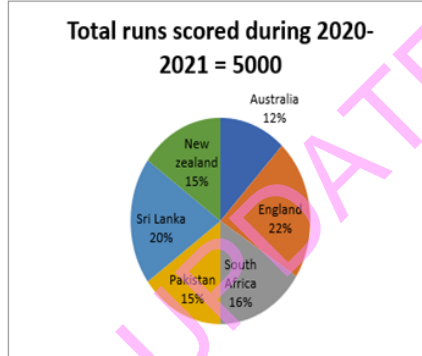
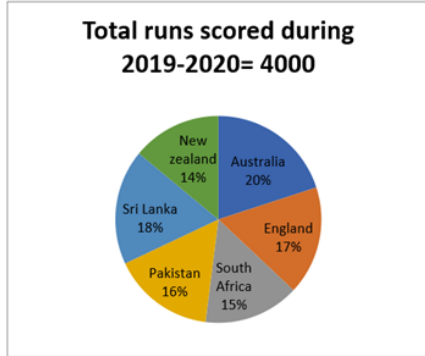
Question ID : 264330165502  
Option 1 ID : 264330649090  
Option 2 ID : 264330649087  
Option 3 ID : 264330649088  
Option 4 ID : 264330649089  
Status : Answered  
Chosen Option : 2

Q.42 20% का कमीशन काटने के बाद, एक डीवीडी सेट का क्रय मूल्य ₹9,080 होता है। इसका अंकित मूल्य क्या है?

- Ans  1. ₹11,350  
 2. ₹10,100  
 3. ₹11,200  
 4. ₹10,000

Question ID : 264330130930  
Option 1 ID : 264330512834  
Option 2 ID : 264330512833  
Option 3 ID : 264330512832  
Option 4 ID : 264330512831  
Status : Answered  
Chosen Option : 1

Q.43 नीचे दिए गए पाई चार्ट 1 में किसी खिलाड़ी द्वारा वर्ष 2019-2020 के दौरान 6 अलग-अलग देशों के विरुद्ध बनाए गए रनों को दर्शाया गया है। पाई चार्ट 2 में उसी खिलाड़ी द्वारा वर्ष 2020-2021 के दौरान उन्हीं 6 देशों के विरुद्ध बनाए गए रनों को दर्शाया गया है।



Total runs scored during 2019-20 = वर्ष 2019-20 के दौरान बनाए गए कुल रन  
New Zealand = न्यूजीलैंड  
Australia = ऑस्ट्रेलिया  
England = इंग्लैंड  
South Africa = दक्षिण अफ्रीका  
Pakistan = पाकिस्तान  
Sri Lanka = श्रीलंका

Total runs scored during 2020-21 = वर्ष 2020-21 के दौरान बनाए गए कुल रन  
New Zealand = न्यूजीलैंड  
Australia = ऑस्ट्रेलिया  
England = इंग्लैंड  
South Africa = दक्षिण अफ्रीका  
Pakistan = पाकिस्तान  
Sri Lanka = श्रीलंका

वर्ष 2019-2020 के दौरान न्यूजीलैंड और पाकिस्तान के विरुद्ध बनाए गए कुल रनों और वर्ष 2020-2021 के दौरान श्रीलंका और पाकिस्तान के विरुद्ध बनाए गए कुल रनों के बीच में अंतर ज्ञात कीजिए।

- Ans  1. 500  
 2. 600  
 3. 650  
 4. 550

Question ID : 264330158400  
Option 1 ID : 264330620960  
Option 2 ID : 264330620961  
Option 3 ID : 264330620962  
Option 4 ID : 264330620959  
Status : Not Answered  
Chosen Option : --

Q.44 माना m और n का महत्तम समापवर्तक (HCF) 'a' है, और  $n = ab$  है, तो m और n के लघुत्तम समापवर्तक (LCM) को निम्न में से किसके द्वारा दर्शाया जाएगा?

- Ans
- 1. ab
  - 2. am
  - 3. mn
  - 4. bm

Question ID : 264330145031

Option 1 ID : 264330568381

Option 2 ID : 264330568379

Option 3 ID : 264330568382

Option 4 ID : 264330568380

Status : Not Answered

Chosen Option : --

Q.45 राखी ने एक टोकरी, एक पर्स और एक बेल्ट खरीदा। उसने टोकरी, पर्स और बेल्ट के क्रमशः ₹80, ₹150 और ₹350 के अंकित मूल्यों पर क्रमशः 5%, 8% और 10% की छूट प्राप्त की। उसने कुल कितनी राशि (₹में) का भुगतान किया?

- Ans
- 1. 529
  - 2. 580
  - 3. 51
  - 4. 519

Question ID : 264330105972

Option 1 ID : 264330416192

Option 2 ID : 264330416189

Option 3 ID : 264330416190

Option 4 ID : 264330416191

Status : Answered

Chosen Option : 1

Q.46  $1\frac{2}{5} - \left[ 3\frac{3}{4} \div \left\{ 1\frac{1}{4} \div \frac{1}{2} \left( 1\frac{1}{2} \times 3\frac{1}{3} \div 1\frac{1}{3} \right) \right\} \right]$  का मान कितना होगा?

- Ans
- 1. 0
  - 2. 3
  - 3. 2
  - 4. 1

Question ID : 264330165154

Option 1 ID : 264330647717

Option 2 ID : 264330647718

Option 3 ID : 264330647715

Option 4 ID : 264330647716

Status : Not Answered

Chosen Option : --

Q.47 एक दुकानदार की 4 क्रमागत दिनों की बिक्री ₹5,445, ₹5,937, ₹5,865 और ₹6,562 है। यदि उसकी 5 दिनों की औसत बिक्री ₹6,050 हो, तो उसकी पांचवें दिन की बिक्री ज्ञात कीजिए।

- Ans
- 1. ₹6,231
  - 2. ₹6,341
  - 3. ₹6,131
  - 4. ₹6,441

Question ID : 264330165479  
Option 1 ID : 264330648996  
Option 2 ID : 264330648997  
Option 3 ID : 264330648995  
Option 4 ID : 264330648998  
Status : Answered  
Chosen Option : 4

Q.48 एक कंपनी द्वारा विगत कुछ वर्षों में निर्मित बैटरियों की बिक्री (लाख में) दी गई तालिका में दर्शाई गई है।

YEAR	TYPES OF BATTERIES					
	4AH	7AH	32AH	35AH	55AH	Total
1992	75	144	114	102	108	543
1993	90	126	102	84	126	528
1994	96	114	75	105	135	525
1995	105	90	150	90	75	510
1996	90	75	135	75	90	465
1997	105	60	165	45	120	495
1998	115	85	160	100	145	605

पिछले सात वर्ष में किस प्रकार की बैटरी की कुल बिक्री सबसे अधिक थी?

- Ans
- 1. 35 AH
  - 2. 55 AH
  - 3. 32 AH
  - 4. 4 AH

Question ID : 264330145025  
Option 1 ID : 264330568357  
Option 2 ID : 264330568358  
Option 3 ID : 264330568356  
Option 4 ID : 264330568355  
Status : Not Answered  
Chosen Option : --

Q.49 यदि  $\sin A + \sin^2 A = 1$  है, तो  $\cos^4 A + \cos^6 A$  का मान क्या होगा?

- Ans
- 1. 0
  - 2. 1
  - 3.  $\sin A$
  - 4.  $\cos A$

Question ID : 264330157757  
Option 1 ID : 264330618390  
Option 2 ID : 264330618389  
Option 3 ID : 264330618387  
Option 4 ID : 264330618388  
Status : Answered  
Chosen Option : 3

Q.50 एक कंपनी तीन प्रकार के बक्सों का निर्माण करती है - प्लास्टिक, लकड़ी और काँच। प्लास्टिक, लकड़ी और काँच के बक्सों की संख्या का अनुपात 2 : 3 : 5 है। लकड़ी और काँच के बक्सों की संख्याओं के बीच का अंतर 144 है। यदि प्लास्टिक के बक्सों की संख्या में 25% की वृद्धि की जाए, तो अब प्लास्टिक के बक्सों की संख्या कितनी होगी?

- Ans
- 1. 360
  - 2. 144
  - 3. 216
  - 4. 180

Question ID : 264330103318  
Option 1 ID : 264330405580  
Option 2 ID : 264330405577  
Option 3 ID : 264330405579  
Option 4 ID : 264330405578  
Status : Answered  
Chosen Option : 4

Section : English Comprehension

Q.1 Select the most appropriate meaning of the underlined idiom.  
You must lie in the bed you have made.

- Ans
- 1. Sleep on the bed you made yourself
  - 2. Face the unpleasant consequences of your own acts
  - 3. Be contended always
  - 4. Sleep in your own bed

Question ID : 26433098330  
Option 1 ID : 264330385974  
Option 2 ID : 264330385975  
Option 3 ID : 264330385976  
Option 4 ID : 264330385973  
Status : Answered  
Chosen Option : 4

Q.2 Select the most appropriate ANTONYM of the given word.  
Vague

- Ans
- 1. Dwarf
  - 2. Elegant
  - 3. Definite
  - 4. Regal

Question ID : 264330164276  
Option 1 ID : 264330644328  
Option 2 ID : 264330644329  
Option 3 ID : 264330644327  
Option 4 ID : 264330644330  
Status : Answered  
Chosen Option : 3

Q.3 Select the most appropriate ANTONYM of the given word.

Demolish

- Ans
- 1. Inferior
  - 2. Annihilate
  - 3. Unmethodical
  - 4. Fabricate

Question ID : 264330163373

Option 1 ID : 264330640780

Option 2 ID : 264330640781

Option 3 ID : 264330640782

Option 4 ID : 264330640779

Status : Answered

Chosen Option : 4

Q.4 The following sentence has been split into four segments. Identify the segment that contains a grammatical error.

“You look so young! / When did you completed your graduation?” / asked Rekha / to her neighbour.

- Ans
- 1. asked Rekha
  - 2. You look so young!
  - 3. to her neighbour
  - 4. When did you completed your graduation?

Question ID : 264330139157

Option 1 ID : 264330545205

Option 2 ID : 264330545203

Option 3 ID : 264330545206

Option 4 ID : 264330545204

Status : Answered

Chosen Option : 4

Q.5 Select the sentence that has a spelling error.

A- Keeping cities clean and free of germs is particularly essential for keeping their residents healthy.

B- Our health depends not just on our nutrition and personal hygiene but also on how we clean our cities and surroundings.

C- The spread of various diseases is intricately linked to the deteriorating state of public health condition.

D- The good news is that waste management, to keep cities clean, is now getting attention through the Swachh Bharat Mission.

- Ans
- 1. Our health depends not just on our nutrition and personal hygiene but also on how we clean our cities and surroundings.
  - 2. The good news is that waste management, to keep cities clean, is now getting attention through the Swachh Bharat Mission.
  - 3. The spread of various diseases is intricately linked to the deteriorating state of public health condition.
  - 4. Keeping cities clean and free of germs is particularly essential for keeping their residents healthy.

Question ID : 264330141564

Option 1 ID : 264330554592

Option 2 ID : 264330554594

Option 3 ID : 264330554593

Option 4 ID : 264330554591

Status : Not Attempted and Marked For Review

Chosen Option : --

**Q.6** Select the most appropriate ANTONYM of the given word.

**Defunct**

- Ans**  1. Stoicism  
 2. Redundant  
 3. Convoluted  
 4. Extant

Question ID : 264330163400  
Option 1 ID : 264330640881  
Option 2 ID : 264330640879  
Option 3 ID : 264330640880  
Option 4 ID : 264330640882  
Status : Answered  
Chosen Option : 4

**Q.7** Select the most appropriate synonym of the given word.

**Behold**

- Ans**  1. Fortunate  
 2. Look  
 3. Predict  
 4. Burden

Question ID : 264330163370  
Option 1 ID : 264330640768  
Option 2 ID : 264330640769  
Option 3 ID : 264330640767  
Option 4 ID : 264330640770  
Status : Answered  
Chosen Option : 1

**Q.8** Select the most appropriate meaning of the given idiom.  
**Burn one's bridges**

- Ans**  1. Attack on one's enemy  
 2. Having an overnight success  
 3. Working very hard  
 4. Impossible to return to an earlier state

Question ID : 264330135902  
Option 1 ID : 264330532465  
Option 2 ID : 264330532466  
Option 3 ID : 264330532464  
Option 4 ID : 264330532463  
Status : Answered  
Chosen Option : 4

**Q.9** Select the most appropriate idiom to fill in the blank.

The company had some initial problems, but now it is \_\_\_\_\_.

- Ans
- 1. flying high
  - 2. flying a kite
  - 3. flying like a rock
  - 4. flying the nest

Question ID : 264330163338  
Option 1 ID : 264330640652  
Option 2 ID : 264330640651  
Option 3 ID : 264330640654  
Option 4 ID : 264330640653  
Status : Answered  
Chosen Option : 1

**Q.10** Select the most appropriate option that can substitute the underlined word in the given sentence.

The new professor is liked by his students for his amiable approach.

- Ans
- 1. strict
  - 2. simple
  - 3. academic
  - 4. friendly

Question ID : 264330117217  
Option 1 ID : 264330460929  
Option 2 ID : 264330460932  
Option 3 ID : 264330460931  
Option 4 ID : 264330460930  
Status : Answered  
Chosen Option : 4

**Q.11** The following sentence has been divided into parts. One of them may contain an error.

Select the part that contains the error from the given options. If you don't find any error, mark 'No error' as your answer.

Neem tastes / a little bitterly, / but is very useful.

- Ans
- 1. Neem tastes
  - 2. but is very useful
  - 3. No error
  - 4. a little bitterly

Question ID : 264330117146  
Option 1 ID : 264330460653  
Option 2 ID : 264330460655  
Option 3 ID : 264330460656  
Option 4 ID : 264330460654  
Status : Answered  
Chosen Option : 2



**Q.12** Parts of the following sentence have been given as options. Select the option that contains an error.

Rani was extreme upset with her results this year.

- Ans
- 1. this year
  - 2. Rani was
  - 3. extreme upset
  - 4. with her results

Question ID : 264330134123

Option 1 ID : 264330525518

Option 2 ID : 264330525515

Option 3 ID : 264330525516

Option 4 ID : 264330525517

Status : Answered

Chosen Option : 3

**Q.13** Select the most appropriate meaning of the underlined idiom that can be substituted in the following sentence.

Right now, my hands are full.

- Ans
- 1. My hands are swollen
  - 2. My hands are filled up
  - 3. I'm very tired
  - 4. I'm very busy

Question ID : 26433094758

Option 1 ID : 264330371866

Option 2 ID : 264330371865

Option 3 ID : 264330371868

Option 4 ID : 264330371867

Status : Answered

Chosen Option : 4

**Q.14** Select the option that will improve the underlined part of the given sentence. The village Seoni is located 113 km away from the capital city of MP, Bhopal.

- Ans
- 1. adjacent from city capital of MP, Bhopal
  - 2. proximate from capital of MP, Bhopal
  - 3. near from the city capital of MP, Bhopal
  - 4. far from the capital city of MP, Bhopal

Question ID : 264330145290

Option 1 ID : 264330569415

Option 2 ID : 264330569417

Option 3 ID : 264330569416

Option 4 ID : 264330569418

Status : Answered

Chosen Option : 4

**Q.15** Select the most appropriate meaning of the given idiom.  
Open your heart

- Ans
- 1. Immediately think of something
  - 2. Could do something very easily
  - 3. Feel relieved because the stress is removed
  - 4. Share your deepest feelings

Question ID : 264330135999  
Option 1 ID : 264330532838  
Option 2 ID : 264330532837  
Option 3 ID : 264330532836  
Option 4 ID : 264330532835  
Status : Answered  
Chosen Option : 4

**Q.16** Select the option that can be used as a one-word substitute for the given group of words.

A place where coins are made

- Ans
- 1. Mint
  - 2. Post Office
  - 3. Trough
  - 4. Grove

Question ID : 26433088757  
Option 1 ID : 264330348584  
Option 2 ID : 264330348583  
Option 3 ID : 264330348582  
Option 4 ID : 264330348581  
Status : Answered  
Chosen Option : 1

**Q.17** Select the most appropriate synonym of the given word.

Spontaneous

- Ans
- 1. Acquisitive
  - 2. Instinctive
  - 3. Exhaustive
  - 4. Attractive

Question ID : 264330163330  
Option 1 ID : 264330640620  
Option 2 ID : 264330640619  
Option 3 ID : 264330640621  
Option 4 ID : 264330640622  
Status : Answered  
Chosen Option : 1

**Q.18** The following sentence has been split into four segments. Identify the segment that contains a grammatical error.

The postman / delivers the letters / through hand, / door to door.

- Ans  1. through hand  
 2. delivers the letters  
 3. door to door  
 4. The postman

Question ID : 264330145282  
Option 1 ID : 264330569385  
Option 2 ID : 264330569384  
Option 3 ID : 264330569386  
Option 4 ID : 264330569383  
Status : Answered  
Chosen Option : 1

**Q.19** Select the option that can be used as a one-word substitute for the given group of words.

An ability to do several things at the same time.

- Ans  1. Indictment  
 2. Blasphemy  
 3. Unitasking  
 4. Multitasking

Question ID : 26433088967  
Option 1 ID : 264330349408  
Option 2 ID : 264330349407  
Option 3 ID : 264330349405  
Option 4 ID : 264330349406  
Status : Answered  
Chosen Option : 4

**Q.20** Select the correct spelling of the incorrectly spelt word.

Diplomats believe that buraucratic delays are inevitable.

- Ans  1. burocratic  
 2. beleave  
 3. bureaucratic  
 4. inivitable

Question ID : 26433088980  
Option 1 ID : 264330349457  
Option 2 ID : 264330349460  
Option 3 ID : 264330349459  
Option 4 ID : 264330349458  
Status : Answered  
Chosen Option : 3

**Q.21** Select the most appropriate **ANTONYM** of the given word.  
**Credit**

- Ans  1. Impute  
 2. Debit  
 3. Install  
 4. Litigate

Question ID : 26433096221  
Option 1 ID : 264330377638  
Option 2 ID : 264330377637  
Option 3 ID : 264330377639  
Option 4 ID : 264330377640  
Status : Answered  
Chosen Option : 2

**Q.22** You are preparing a speech for the upcoming function. Select a synonym for the highlighted word to make it better.  
The education system must evolve to keep pace with the rapid changes in the job market.

- Ans  1. Demolish  
 2. Censor  
 3. Emanate  
 4. Conceal

Question ID : 264330121903  
Option 1 ID : 264330477767  
Option 2 ID : 264330477770  
Option 3 ID : 264330477768  
Option 4 ID : 264330477769  
Status : Answered  
Chosen Option : 3

**Q.23** Select the option that can be used as a one-word substitute for the given group of words.

The compulsion to tell lies

- Ans  1. Nymphomania  
 2. Pyromania  
 3. Mythomania  
 4. Megalomania

Question ID : 26433088995  
Option 1 ID : 264330349520  
Option 2 ID : 264330349519  
Option 3 ID : 264330349518  
Option 4 ID : 264330349517  
Status : Answered  
Chosen Option : 3

**Q.24** Select the option that can be used as a one-word substitute for the given group of words.

A person who does not eat any animal product

- Ans
- 1. Vegetarian
  - 2. Veggie
  - 3. Vegan
  - 4. Non-vegetarian

Question ID : 26433088897  
Option 1 ID : 264330349133  
Option 2 ID : 264330349136  
Option 3 ID : 264330349135  
Option 4 ID : 264330349134  
Status : Answered  
Chosen Option : 3

**Q.25** Select the option that can be used as a one-word substitute for the given group of words.

Someone who pretends to have certain moral standards while secretly that person practices those very moral lapses.

- Ans
- 1. Hypocrite
  - 2. Spy
  - 3. Sinner
  - 4. Actor

Question ID : 26433088806  
Option 1 ID : 264330348779  
Option 2 ID : 264330348780  
Option 3 ID : 264330348778  
Option 4 ID : 264330348777  
Status : Answered  
Chosen Option : 1

**Q.26** Select the most appropriate option that can substitute the underlined segment in the given sentence.

A gust of wind came abruptly and our sand castle toppled.

- Ans
- 1. turned up
  - 2. tumbled down
  - 3. ran after
  - 4. blew out

Question ID : 26433099884  
Option 1 ID : 264330392128  
Option 2 ID : 264330392127  
Option 3 ID : 264330392126  
Option 4 ID : 264330392125  
Status : Answered  
Chosen Option : 4

**Q.27** Some words in the following sentence have been underlined and given as options. Select the option that contains a spelling error.  
The rolling waves on the beach were so tranquil and soothing.

- Ans
- 1. rolling
  - 2. beach
  - 3. soothing
  - 4. tranquil

Question ID : 264330121270  
Option 1 ID : 264330475283  
Option 2 ID : 264330475284  
Option 3 ID : 264330475286  
Option 4 ID : 264330475285  
Status : Answered  
Chosen Option : 4

**Q.28** Parts of the following sentence have been given as options. One of them may contain an error. Select the part that contains the error from the given options. If you don't find any error, mark 'No error' as your answer.

Luckily, I managed to get a room in the college hostel, and I move in there.

- Ans
- 1. in the college hostel
  - 2. and I move in there
  - 3. Luckily, I managed to get a room
  - 4. No error

Question ID : 26433090493  
Option 1 ID : 264330355422  
Option 2 ID : 264330355423  
Option 3 ID : 264330355421  
Option 4 ID : 264330355424  
Status : Answered  
Chosen Option : 2

**Q.29** Select the most appropriate ANTONYM of the given word.  
Brave

- Ans
- 1. Elegant
  - 2. Cowardly
  - 3. Cordial
  - 4. Courageous

Question ID : 264330164167  
Option 1 ID : 264330643922  
Option 2 ID : 264330643921  
Option 3 ID : 264330643919  
Option 4 ID : 264330643920  
Status : Answered  
Chosen Option : 2

**Q.30** Select the most appropriate idiomatic expression to fill in the blank.

Our Director took a meeting and asked us to express our views on \_\_\_\_\_ of the new HR policy.

- Ans  1. the pros and cons  
 2. the hook  
 3. the ups and downs  
 4. the bandwagon

Question ID : 26433092080  
Option 1 ID : 264330361641  
Option 2 ID : 264330361643  
Option 3 ID : 264330361642  
Option 4 ID : 264330361644  
Status : Answered  
Chosen Option : 1

**Q.31** Select the most appropriate meaning of the underlined idiom.

We've sent a very strong protest letter. That should make them sit up and take notice.

- Ans  1. Consider  
 2. Follow  
 3. Observe  
 4. Attend

Question ID : 26433099070  
Option 1 ID : 264330388914  
Option 2 ID : 264330388916  
Option 3 ID : 264330388913  
Option 4 ID : 264330388915  
Status : Answered  
Chosen Option : 1

**Q.32** Select the INCORRECTLY spelt word.

- Ans  1. Caricature  
 2. Cumbersome  
 3. Click  
 4. Cumulative

Question ID : 26433089392  
Option 1 ID : 264330351070  
Option 2 ID : 264330351071  
Option 3 ID : 264330351072  
Option 4 ID : 264330351069  
Status : Answered  
Chosen Option : 1

**Q.33** Select the option that can be used as a one-word substitute for the given group of words.

Spoken or done without any previous thought or preparation

- Ans
- 1. Initiative
  - 2. Extempore
  - 3. Maiden
  - 4. Inaugural

Question ID : 26433088197  
Option 1 ID : 264330346383  
Option 2 ID : 264330346384  
Option 3 ID : 264330346382  
Option 4 ID : 264330346381  
Status : Answered  
Chosen Option : 2

**Q.34** Select the option that can be used as a one-word substitute for the given group of words.

Something of monstrous size or power

- Ans
- 1. Behemoth
  - 2. Bulk
  - 3. Amazon
  - 4. Heavyweight

Question ID : 26433088439  
Option 1 ID : 264330347343  
Option 2 ID : 264330347342  
Option 3 ID : 264330347341  
Option 4 ID : 264330347344  
Status : Answered  
Chosen Option : 2

**Q.35** Select the most appropriate idiom that can substitute the underlined segment in the given sentence.

He got a burst of energy and started digging again.

- Ans
- 1. second wind
  - 2. a fancy of someone
  - 3. took bull by the horns
  - 4. heart on the sleeve

Question ID : 264330117164  
Option 1 ID : 264330460721  
Option 2 ID : 264330460724  
Option 3 ID : 264330460723  
Option 4 ID : 264330460722  
Status : Answered  
Chosen Option : 1



**Q.36** Select the most appropriate idiomatic expression to substitute for the underlined segment in the given sentence.

I had to work late in the night for nearly three months to write my first book.

- Ans
- 1. to look through coloured glasses
  - 2. to burn the midnight oil
  - 3. to blow a fuse
  - 4. to take a back seat

Question ID : 26433092082  
Option 1 ID : 264330361651  
Option 2 ID : 264330361652  
Option 3 ID : 264330361649  
Option 4 ID : 264330361650  
Status : Answered  
Chosen Option : 2

**Q.37** Select the most appropriate one-word substitution of the given group of words.

A list of source materials that are used or consulted in the preparation of a work or that are referred to in the text.

- Ans
- 1. Bibliography
  - 2. Bibliomemoir
  - 3. Bibliophile
  - 4. Bibliotheca

Question ID : 26433090850  
Option 1 ID : 264330356810  
Option 2 ID : 264330356811  
Option 3 ID : 264330356809  
Option 4 ID : 264330356812  
Status : Answered  
Chosen Option : 1

**Q.38** Select the most appropriate meaning of the given idiom.  
Boil the ocean

- Ans
- 1. Try to do something impossible
  - 2. Something very big
  - 3. Something which gets hot gradually
  - 4. To make someone very angry

Question ID : 264330135901  
Option 1 ID : 264330532462  
Option 2 ID : 264330532460  
Option 3 ID : 264330532461  
Option 4 ID : 264330532459  
Status : Answered  
Chosen Option : 1

**Q.39** Select the most appropriate ANTONYM of the word 'hinderance' in the given sentence and choose the correct option.

The refreshing breeze blew through the open window, bringing relief from the summer heat.

- Ans  1. Relief  
 2. Bringing  
 3. Blew  
 4. Refreshing

Question ID : 264330163537  
Option 1 ID : 264330641406  
Option 2 ID : 264330641405  
Option 3 ID : 264330641404  
Option 4 ID : 264330641403  
Status : Answered  
Chosen Option : 1

**Q.40** Four words have been underlined in the given sentence of which one word has a spelling error. Identify the incorrectly spelt word.  
The tiger thrshed (A) against his chains (B) in the cage at the circus (C) but nobody paid him any heed (D).

- Ans  1. circus  
 2. thrshed  
 3. chains  
 4. heed

Question ID : 264330122806  
Option 1 ID : 264330481293  
Option 2 ID : 264330481291  
Option 3 ID : 264330481292  
Option 4 ID : 264330481294  
Status : Answered  
Chosen Option : 2

**Comprehension:**

In the following passage, some words have been deleted. Read the passage carefully and select the most appropriate option to fill in each blank.

It is said that everyone lives (1)\_\_\_\_\_ selling something. What you can (2)\_\_\_\_\_ from this statement is that teachers live by selling knowledge, philosophers live by selling wisdom and priests earn their living by selling spiritual comfort. Though it may be possible to measure the value of material goods in terms of money, it is extremely difficult to (3)\_\_\_\_\_ the true value of the services which people perform for us. There are times when we would (4)\_\_\_\_\_ give everything we possess to save our lives, yet we might grudge paying a surgeon a high fee for offering us precisely the same service. The (5)\_\_\_\_\_ of society are such that skills have to be paid for in the same way that goods are paid for at a shop.

**SubQuestion No : 41**

**Q.41** Select the most appropriate option to fill in blank number 1.

- Ans  1. by  
 2. of  
 3. into  
 4. over

Question ID : 264330163286  
Option 1 ID : 264330640448  
Option 2 ID : 264330640450  
Option 3 ID : 264330640447  
Option 4 ID : 264330640449  
Status : Answered  
Chosen Option : 1

**Comprehension:**

In the following passage, some words have been deleted. Read the passage carefully and select the most appropriate option to fill in each blank.

It is said that everyone lives (1)\_\_\_\_\_ selling something. What you can (2)\_\_\_\_\_ from this statement is that teachers live by selling knowledge, philosophers live by selling wisdom and priests earn their living by selling spiritual comfort. Though it may be possible to measure the value of material goods in terms of money, it is extremely difficult to (3)\_\_\_\_\_ the true value of the services which people perform for us. There are times when we would (4)\_\_\_\_\_ give everything we possess to save our lives, yet we might grudge paying a surgeon a high fee for offering us precisely the same service. The (5)\_\_\_\_\_ of society are such that skills have to be paid for in the same way that goods are paid for at a shop.

**SubQuestion No : 42**

**Q.42** Select the most appropriate option to fill in blank number 2.

- Ans  1. derive  
 2. choose  
 3. revive  
 4. separate

Question ID : 264330163287

Option 1 ID : 264330640453

Option 2 ID : 264330640452

Option 3 ID : 264330640451

Option 4 ID : 264330640454

Status : Answered

Chosen Option : 2

**Comprehension:**

In the following passage, some words have been deleted. Read the passage carefully and select the most appropriate option to fill in each blank.

It is said that everyone lives (1)\_\_\_\_\_ selling something. What you can (2)\_\_\_\_\_ from this statement is that teachers live by selling knowledge, philosophers live by selling wisdom and priests earn their living by selling spiritual comfort. Though it may be possible to measure the value of material goods in terms of money, it is extremely difficult to (3)\_\_\_\_\_ the true value of the services which people perform for us. There are times when we would (4)\_\_\_\_\_ give everything we possess to save our lives, yet we might grudge paying a surgeon a high fee for offering us precisely the same service. The (5)\_\_\_\_\_ of society are such that skills have to be paid for in the same way that goods are paid for at a shop.

**SubQuestion No : 43**

**Q.43** Select the most appropriate option to fill in blank number 3.

- Ans  1. extort  
 2. conceal  
 3. mock  
 4. estimate

Question ID : 264330163288

Option 1 ID : 264330640456

Option 2 ID : 264330640455

Option 3 ID : 264330640457

Option 4 ID : 264330640458

Status : Answered

Chosen Option : 4

**Comprehension:**

In the following passage, some words have been deleted. Read the passage carefully and select the most appropriate option to fill in each blank.

It is said that everyone lives (1)\_\_\_\_\_ selling something. What you can (2)\_\_\_\_\_ from this statement is that teachers live by selling knowledge, philosophers live by selling wisdom and priests earn their living by selling spiritual comfort. Though it may be possible to measure the value of material goods in terms of money, it is extremely difficult to (3)\_\_\_\_\_ the true value of the services which people perform for us. There are times when we would (4)\_\_\_\_\_ give everything we possess to save our lives, yet we might grudge paying a surgeon a high fee for offering us precisely the same service. The (5)\_\_\_\_\_ of society are such that skills have to be paid for in the same way that goods are paid for at a shop.

**SubQuestion No : 44**

**Q.44** Select the most appropriate option to fill in blank number 4.

- Ans
- 1. thoroughly
  - 2. perfectly
  - 3. thoughtfully
  - 4. willingly

Question ID : 264330163289

Option 1 ID : 264330640460

Option 2 ID : 264330640461

Option 3 ID : 264330640462

Option 4 ID : 264330640459

Status : Answered

Chosen Option : 2

**Comprehension:**

In the following passage, some words have been deleted. Read the passage carefully and select the most appropriate option to fill in each blank.

It is said that everyone lives (1)\_\_\_\_\_ selling something. What you can (2)\_\_\_\_\_ from this statement is that teachers live by selling knowledge, philosophers live by selling wisdom and priests earn their living by selling spiritual comfort. Though it may be possible to measure the value of material goods in terms of money, it is extremely difficult to (3)\_\_\_\_\_ the true value of the services which people perform for us. There are times when we would (4)\_\_\_\_\_ give everything we possess to save our lives, yet we might grudge paying a surgeon a high fee for offering us precisely the same service. The (5)\_\_\_\_\_ of society are such that skills have to be paid for in the same way that goods are paid for at a shop.

**SubQuestion No : 45**

**Q.45** Select the most appropriate option to fill in blank number 5.

- Ans
- 1. obstacles
  - 2. connections
  - 3. interferences
  - 4. conditions

Question ID : 264330163290

Option 1 ID : 264330640466

Option 2 ID : 264330640464

Option 3 ID : 264330640463

Option 4 ID : 264330640465

Status : Answered

Chosen Option : 4

### Comprehension:

Read the given passage carefully and answer the questions that follow.

As a society, we have come a long way in terms of progress and development. We have eradicated diseases, explored space, and created technological wonders that were once thought impossible. Yet, there is still one issue that continues to plague us: stupidity.

Yes, stupidity. The thing that seems to be contagious and has been spreading faster than the common cold. It's everywhere you look - on social media, in politics, in the workplace. You can't escape it.

It's as if we've all collectively decided that intelligence and common sense are no longer important. Why bother using your brain when you can just rely on your gut feelings and conspiracy theories?

Take politics, for example. It used to be that politicians were expected to be knowledgeable and well-informed about the issues they were dealing with. Now, it seems that all you need is a catchy slogan and some empty promises to win an election.

And don't even get me started on social media. It's a breeding ground for stupidity. People will believe anything they read as long as it confirms their preconceived biases. And don't even think about trying to present them with actual facts and evidence. That's just a waste of time.

But it's not just individuals who are to blame for this epidemic of stupidity. Our education system is failing us as well. We're teaching our kids how to pass tests instead of how to think critically and solve problems. It's no wonder we have a generation of adults who can't even find their way around a basic math problem.

Of course, there are some who would argue that stupidity is just a different way of thinking.

That it's a valid perspective that deserves to be respected. To those people, I say this: if you want to be stupid, go ahead. Just don't expect the rest of us to respect your opinions when they're based on nothing but ignorance and misinformation.

It's time for us to take a stand against stupidity. We need to start valuing intelligence and critical thinking again. We need to hold our leaders accountable for their actions and demand that they be knowledgeable and well-informed. We need to teach our children how to think, not just how to memorise.

It won't be easy, but it's a fight worth fighting. Because if we don't, we'll be stuck in a world where stupidity reigns supreme, and there's no telling what kind of damage that could do. So let's all do our part and start using our brains again. It's time to put an end to the epidemic of stupidity once and for all.

#### SubQuestion No : 46

Q.46 What is the tone of the passage?

- Ans  1. Sarcastic  
 2. Joyful  
 3. Serious  
 4. Melancholic

Question ID : 264330165139

Option 1 ID : 264330647660

Option 2 ID : 264330647659

Option 3 ID : 264330647661

Option 4 ID : 264330647662

Status : Answered

Chosen Option : 1

### Comprehension:

Read the given passage carefully and answer the questions that follow.

As a society, we have come a long way in terms of progress and development. We have eradicated diseases, explored space, and created technological wonders that were once thought impossible. Yet, there is still one issue that continues to plague us: stupidity. Yes, stupidity. The thing that seems to be contagious and has been spreading faster than the common cold. It's everywhere you look - on social media, in politics, in the workplace. You can't escape it.

It's as if we've all collectively decided that intelligence and common sense are no longer important. Why bother using your brain when you can just rely on your gut feelings and conspiracy theories?

Take politics, for example. It used to be that politicians were expected to be knowledgeable and well-informed about the issues they were dealing with. Now, it seems that all you need is a catchy slogan and some empty promises to win an election.

And don't even get me started on social media. It's a breeding ground for stupidity. People will believe anything they read as long as it confirms their preconceived biases. And don't even think about trying to present them with actual facts and evidence. That's just a waste of time. But it's not just individuals who are to blame for this epidemic of stupidity. Our education system is failing us as well. We're teaching our kids how to pass tests instead of how to think critically and solve problems. It's no wonder we have a generation of adults who can't even find their way around a basic math problem.

Of course, there are some who would argue that stupidity is just a different way of thinking. That it's a valid perspective that deserves to be respected. To those people, I say this: if you want to be stupid, go ahead. Just don't expect the rest of us to respect your opinions when they're based on nothing but ignorance and misinformation.

It's time for us to take a stand against stupidity. We need to start valuing intelligence and critical thinking again. We need to hold our leaders accountable for their actions and demand that they be knowledgeable and well-informed. We need to teach our children how to think, not just how to memorise.

It won't be easy, but it's a fight worth fighting. Because if we don't, we'll be stuck in a world where stupidity reigns supreme, and there's no telling what kind of damage that could do. So let's all do our part and start using our brains again. It's time to put an end to the epidemic of stupidity once and for all.

### SubQuestion No : 47

**Q.47 Which of the following techniques has been used by the author of the passage to convey the message?**

- Ans**  1. Humour and exaggeration  
 2. Examples and anecdotes  
 3. Factual and chronological account  
 4. Parody and mimicry

Question ID : 264330165143

Option 1 ID : 264330647676

Option 2 ID : 264330647677

Option 3 ID : 264330647675

Option 4 ID : 264330647678

Status : Answered

Chosen Option : 2

### Comprehension:

Read the given passage carefully and answer the questions that follow.

As a society, we have come a long way in terms of progress and development. We have eradicated diseases, explored space, and created technological wonders that were once thought impossible. Yet, there is still one issue that continues to plague us: stupidity.

Yes, stupidity. The thing that seems to be contagious and has been spreading faster than the common cold. It's everywhere you look - on social media, in politics, in the workplace. You can't escape it.

It's as if we've all collectively decided that intelligence and common sense are no longer important. Why bother using your brain when you can just rely on your gut feelings and conspiracy theories?

Take politics, for example. It used to be that politicians were expected to be knowledgeable and well-informed about the issues they were dealing with. Now, it seems that all you need is a catchy slogan and some empty promises to win an election.

And don't even get me started on social media. It's a breeding ground for stupidity. People will believe anything they read as long as it confirms their preconceived biases. And don't even think about trying to present them with actual facts and evidence. That's just a waste of time.

But it's not just individuals who are to blame for this epidemic of stupidity. Our education system is failing us as well. We're teaching our kids how to pass tests instead of how to think critically and solve problems. It's no wonder we have a generation of adults who can't even find their way around a basic math problem.

Of course, there are some who would argue that stupidity is just a different way of thinking. That it's a valid perspective that deserves to be respected. To those people, I say this: if you want to be stupid, go ahead. Just don't expect the rest of us to respect your opinions when they're based on nothing but ignorance and misinformation.

It's time for us to take a stand against stupidity. We need to start valuing intelligence and critical thinking again. We need to hold our leaders accountable for their actions and demand that they be knowledgeable and well-informed. We need to teach our children how to think, not just how to memorise.

It won't be easy, but it's a fight worth fighting. Because if we don't, we'll be stuck in a world where stupidity reigns supreme, and there's no telling what kind of damage that could do. So let's all do our part and start using our brains again. It's time to put an end to the epidemic of stupidity once and for all.

### SubQuestion No : 48

**Q.48** According to the passage, what is the solution to the issue of stupidity in society?

- Ans
- 1. Teaching students how to pass tests
  - 2. Electing politicians with catchy slogans
  - 3. Encouraging critical thinking and problem-solving skills
  - 4. Embracing ignorance and misinformation

Question ID : 264330165142

Option 1 ID : 264330647673

Option 2 ID : 264330647674

Option 3 ID : 264330647672

Option 4 ID : 264330647671

Status : Answered

Chosen Option : 3

### Comprehension:

Read the given passage carefully and answer the questions that follow.

As a society, we have come a long way in terms of progress and development. We have eradicated diseases, explored space, and created technological wonders that were once thought impossible. Yet, there is still one issue that continues to plague us: stupidity. Yes, stupidity. The thing that seems to be contagious and has been spreading faster than the common cold. It's everywhere you look - on social media, in politics, in the workplace. You can't escape it.

It's as if we've all collectively decided that intelligence and common sense are no longer important. Why bother using your brain when you can just rely on your gut feelings and conspiracy theories?

Take politics, for example. It used to be that politicians were expected to be knowledgeable and well-informed about the issues they were dealing with. Now, it seems that all you need is a catchy slogan and some empty promises to win an election.

And don't even get me started on social media. It's a breeding ground for stupidity. People will believe anything they read as long as it confirms their preconceived biases. And don't even think about trying to present them with actual facts and evidence. That's just a waste of time. But it's not just individuals who are to blame for this epidemic of stupidity. Our education system is failing us as well. We're teaching our kids how to pass tests instead of how to think critically and solve problems. It's no wonder we have a generation of adults who can't even find their way around a basic math problem.

Of course, there are some who would argue that stupidity is just a different way of thinking. That it's a valid perspective that deserves to be respected. To those people, I say this: if you want to be stupid, go ahead. Just don't expect the rest of us to respect your opinions when they're based on nothing but ignorance and misinformation.

It's time for us to take a stand against stupidity. We need to start valuing intelligence and critical thinking again. We need to hold our leaders accountable for their actions and demand that they be knowledgeable and well-informed. We need to teach our children how to think, not just how to memorise.

It won't be easy, but it's a fight worth fighting. Because if we don't, we'll be stuck in a world where stupidity reigns supreme, and there's no telling what kind of damage that could do. So let's all do our part and start using our brains again. It's time to put an end to the epidemic of stupidity once and for all.

### SubQuestion No : 49

**Q.49 According to the author of the passage, who among the following is NOT responsible for the spread of stupidity?**

- Ans
- 1. Politicians
  - 2. Education system
  - 3. Individuals
  - 4. Children

Question ID : 264330165140

Option 1 ID : 264330647664

Option 2 ID : 264330647665

Option 3 ID : 264330647663

Option 4 ID : 264330647666

Status : Answered

Chosen Option : 4



### Comprehension:

Read the given passage carefully and answer the questions that follow.

As a society, we have come a long way in terms of progress and development. We have eradicated diseases, explored space, and created technological wonders that were once thought impossible. Yet, there is still one issue that continues to plague us: stupidity. Yes, stupidity. The thing that seems to be contagious and has been spreading faster than the common cold. It's everywhere you look - on social media, in politics, in the workplace. You can't escape it.

It's as if we've all collectively decided that intelligence and common sense are no longer important. Why bother using your brain when you can just rely on your gut feelings and conspiracy theories?

Take politics, for example. It used to be that politicians were expected to be knowledgeable and well-informed about the issues they were dealing with. Now, it seems that all you need is a catchy slogan and some empty promises to win an election.

And don't even get me started on social media. It's a breeding ground for stupidity. People will believe anything they read as long as it confirms their preconceived biases. And don't even think about trying to present them with actual facts and evidence. That's just a waste of time. But it's not just individuals who are to blame for this epidemic of stupidity. Our education system is failing us as well. We're teaching our kids how to pass tests instead of how to think critically and solve problems. It's no wonder we have a generation of adults who can't even find their way around a basic math problem.

Of course, there are some who would argue that stupidity is just a different way of thinking. That it's a valid perspective that deserves to be respected. To those people, I say this: if you want to be stupid, go ahead. Just don't expect the rest of us to respect your opinions when they're based on nothing but ignorance and misinformation.

It's time for us to take a stand against stupidity. We need to start valuing intelligence and critical thinking again. We need to hold our leaders accountable for their actions and demand that they be knowledgeable and well-informed. We need to teach our children how to think, not just how to memorise.

It won't be easy, but it's a fight worth fighting. Because if we don't, we'll be stuck in a world where stupidity reigns supreme, and there's no telling what kind of damage that could do. So let's all do our part and start using our brains again. It's time to put an end to the epidemic of stupidity once and for all.

### SubQuestion No : 50

**Q.50** What could be a suitable title for the passage?

- Ans
- 1. The Evils of Social Media
  - 2. The Benefits of Stupidity
  - 3. The Joy of Living in a World of Ignorance
  - 4. The Importance of Critical Thinking

Question ID : 264330165141

Option 1 ID : 264330647667

Option 2 ID : 264330647668

Option 3 ID : 264330647670

Option 4 ID : 264330647669

Status : Answered

Chosen Option : 4

**Sub Inspector in Delhi Police and Central Armed Police Forces Examination 2023  
Paper I**

Roll Number	qmaths.in
Candidate Name	KD JOB UPDATES
Venue Name	G.B Infotech
Exam Date	04/10/2023
Exam Time	12:30 PM - 2:30 PM
Subject	SICPO Paper I 2023

Section : General I

Q.1 निम्नलिखित में से कौन-सी संख्या दी गई श्रृंखला में प्रश्न-चिह्न (?) का स्थान लेगी?

$\frac{1}{121}, \frac{1}{11}, 1, ?, 121$

- Ans
- 1. 1
  - 2. 12
  - 3. 21
  - 4. 11

Question ID : 26433092491

Option 1 ID : 264330363253

Option 2 ID : 264330363256

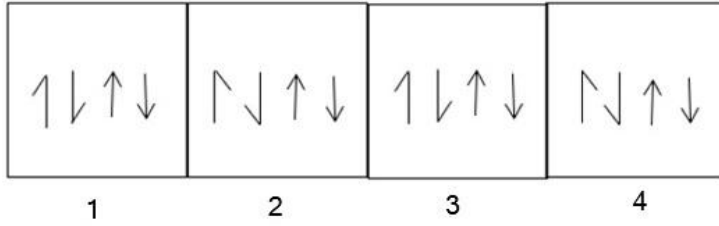
Option 3 ID : 264330363255

Option 4 ID : 264330363254

Status : Answered

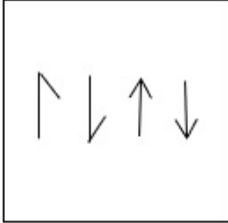
Chosen Option : 4

Q.2 निम्नलिखित में से कौन-सी आकृति दी गई श्रृंखला में 5वें स्थान पर रखे जाने पर पहली चार आकृतियों द्वारा निर्मित श्रृंखला को जारी रखेगी?

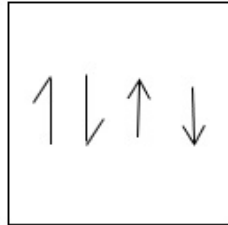


Ans

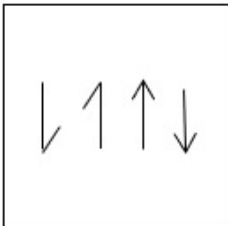
✗ 1.



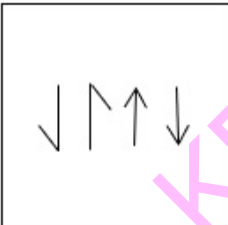
✓ 2.



✗ 3.



✗ 4.



Question ID : 26433087305  
Option 1 ID : 264330342857  
Option 2 ID : 264330342858  
Option 3 ID : 264330342860  
Option 4 ID : 264330342859

Status : Answered

Chosen Option : 2

Q.3 एक निश्चित कूट भाषा में, 'PAINT' को 'ODYTN' और 'BRUSH' को 'CMMOZ' के रूप में लिखा जाता है। उसी कूट भाषा में 'HOUSE' को किस प्रकार लिखा जाएगा?

- Ans  1. WPMOC  
 2. PHYWS  
 3. PBOMS  
 4. WDNOS

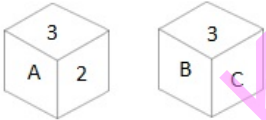
Question ID : 26433074758  
Option 1 ID : 264330293120  
Option 2 ID : 264330293121  
Option 3 ID : 264330293123  
Option 4 ID : 264330293122  
Status : Not Answered  
Chosen Option : --

Q.4 यदि '+' का अर्थ 'x', '-' का अर्थ '÷', 'x' का अर्थ '+' और '÷' का अर्थ '-' है, तो निम्नलिखित व्यंजक का मान क्या होगा?  
 $42 \times 168 - 8 \div 4 + 3 = ?$

- Ans  1. 51  
 2. 45  
 3. 62  
 4. 56

Question ID : 264330101246  
Option 1 ID : 264330397529  
Option 2 ID : 264330397530  
Option 3 ID : 264330397532  
Option 4 ID : 264330397531  
Status : Answered  
Chosen Option : 1

Q.5 एक पासे के अलग-अलग फलकों पर छह अक्षर/अंक A, B, C, 1, 2 और 3 लिखे गए हैं। इस पासे की दो स्थितियां दी गई आकृति में दिखाई गई हैं। A अक्षर वाले फलक के विपरीत फलक पर कौन-सा अक्षर/अंक है?



- Ans  1. B  
 2. C  
 3. 2  
 4. 1

Question ID : 264330109200  
Option 1 ID : 264330429078  
Option 2 ID : 264330429079  
Option 3 ID : 264330429080  
Option 4 ID : 264330429077  
Status : Answered  
Chosen Option : 1

Q.6 उस समुच्चय का चयन कीजिए जिसमें संख्याएँ आपस में उसी प्रकार संबंधित हैं जिस प्रकार निम्नलिखित समुच्चयों की संख्याएँ आपस में संबंधित हैं। (नोट: संख्याओं को उसके घटक अंकों में विभाजित किए बिना, पूर्ण संख्याओं पर गणितीय संक्रियाएं की जानी चाहिए। उदाहरण के लिए 13 - गणितीय संक्रियाएं जैसे कि जोड़ना/घटाना/गुणा करना इत्यादि 13 में किया जा सकता है। 13 को 1 और 3 में विभाजित करना और फिर 1 और 3 पर गणितीय संक्रियाएँ करने की अनुमति नहीं है।)  
(7, 2, 70)  
(6, 4, 120)

- Ans  1. (3, 8, 120)  
 2. (11, 6, 143)  
 3. (13, 4, 208)  
 4. (5, 9, 270)

Question ID : 26433057454

Option 1 ID : 264330224801

Option 2 ID : 264330224802

Option 3 ID : 264330224803

Option 4 ID : 264330224800

Status : Answered

Chosen Option : 1

Q.7 दो कथन दिए गए हैं, जिसके बाद दो निष्कर्ष I और II दिए गए हैं। कथनों को सत्य मानते हुए, भले ही वे सामान्य रूप से ज्ञात तथ्यों से भिन्न प्रतीत होते हों, निर्णय लें कि कौन-से निष्कर्ष कथनों का तार्किक रूप से पालन करते हैं?

कथन:

कुछ सेब संतरे हैं।

सभी संतरे फल हैं।

निष्कर्ष:

I) सभी सेब फल हैं।

II) कुछ फल संतरे हैं।

- Ans  1. केवल निष्कर्ष II पालन करता है।  
 2. न तो निष्कर्ष I और न ही निष्कर्ष II पालन करता है।  
 3. निष्कर्ष I और II दोनों पालन करते हैं।  
 4. केवल निष्कर्ष I पालन करता है।

Question ID : 26433067702

Option 1 ID : 264330265321

Option 2 ID : 264330265323

Option 3 ID : 264330265322

Option 4 ID : 264330265320

Status : Answered

Chosen Option : 1

Q.8 दो कथन दिए गए हैं, जिसके बाद दो निष्कर्ष I और II दिए गए हैं। कथनों को सत्य मानते हुए, भले ही वे सामान्य रूप से ज्ञात तथ्यों से भिन्न प्रतीत होते हों, निर्धारित करें कि कौन-से निष्कर्ष कथनों का तार्किक रूप से पालन करते हैं?

कथन:

कुछ मूवी ड्रामा हैं।  
कुछ ड्रामा फिक्शन हैं।  
निष्कर्ष:

- I. कुछ मूवी फिक्शन हैं।  
II. सभी फिक्शन मूवी हैं।

- Ans  1. केवल निष्कर्ष I पालन करता है  
 2. केवल निष्कर्ष II पालन करता है  
 3. न तो निष्कर्ष I और न ही निष्कर्ष II पालन करता है  
 4. निष्कर्ष I और II दोनों पालन करते हैं

Question ID : 26433056712

Option 1 ID : 264330221832

Option 2 ID : 264330221833

Option 3 ID : 264330221835

Option 4 ID : 264330221834

Status : Answered

Chosen Option : 3

Q.9 एक निश्चित कूट भाषा में, "SUGAR" को 81 और "FILL" को 51 के रूप में कूटबद्ध किया जाता है। उसी कूट भाषा में "CREAM" को किस प्रकार कूटबद्ध किया जाएगा?

- Ans  1. 57  
 2. 55  
 3. 52  
 4. 60

Question ID : 26433074709

Option 1 ID : 264330292926

Option 2 ID : 264330292925

Option 3 ID : 264330292924

Option 4 ID : 264330292927

Status : Answered

Chosen Option : 2

Q.10 निम्नलिखित में से कौन-सी संख्या दी गई श्रृंखला में प्रश्न-चिह्न (?) को प्रतिस्थापित करेगी?  
76, 99, 135, 185, 250, ?

- Ans  1. 315  
 2. 331  
 3. 330  
 4. 328

Question ID : 26433069398

Option 1 ID : 264330272105

Option 2 ID : 264330272107

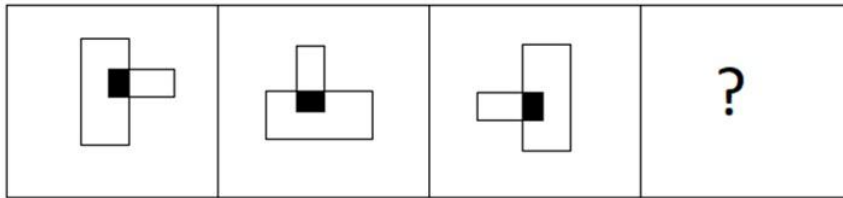
Option 3 ID : 264330272106

Option 4 ID : 264330272104

Status : Answered

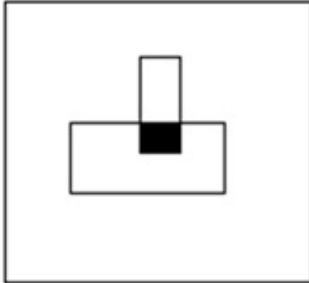
Chosen Option : 2

Q.11 निम्नलिखित आकृति श्रृंखला में आगे आने वाली आकृति का चयन करें।

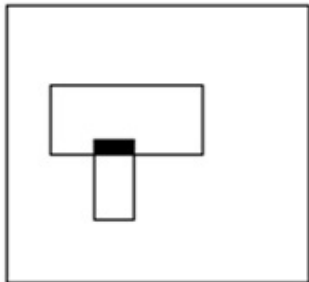


Ans

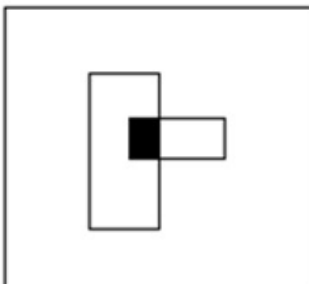
✗ 1.



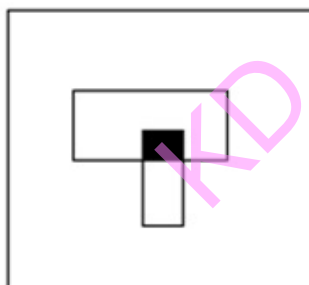
✗ 2.



✗ 3.



✓ 4.



Question ID : 26433087070

Option 1 ID : 264330341921

Option 2 ID : 264330341922

Option 3 ID : 264330341923

Option 4 ID : 264330341924

Status : Answered

Chosen Option : 4

Q.12 उस विकल्प आकृति का चयन करें जिसमें उसके भाग के रूप में दी गई आकृति सन्निहित है (आकृति को घुमाने की अनुमति नहीं है)।



Ans

✓ 1.



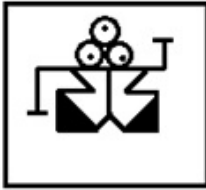
✗ 2.



✗ 3.



✗ 4.



Question ID : 264330117425

Option 1 ID : 264330461744

Option 2 ID : 264330461741

Option 3 ID : 264330461743

Option 4 ID : 264330461742

Status : Answered

Chosen Option : 1

Q.13 A @ B का अर्थ है "A, B का पति है"  
A & B का अर्थ है "A, B की माता है"  
A # B का अर्थ है "A, B की पुत्री है"  
यदि Z # L @ P & K @ J # X है, तो K का Z से क्या संबंध है?

Ans ✓ 1. भाई

✗ 2. माता

✗ 3. भाभी

✗ 4. बहन

Question ID : 264330126025

Option 1 ID : 264330493774

Option 2 ID : 264330493775

Option 3 ID : 264330493773

Option 4 ID : 264330493772

Status : Answered

Chosen Option : 1



Q.14 उस विकल्प का चयन कीजिए, जो दिए गए शब्दों के उस सही क्रम को दर्शाता है, जिस क्रम में वे अंग्रेजी शब्दकोश में मौजूद होते हैं।

- 1.Wrist
- 2.Wrangle
- 3.Workable
- 4.Wrongful
- 5.Woodland

Ans  1. 3, 2, 5, 1, 4  
 2. 5, 3, 2, 1, 4  
 3. 3, 5, 2, 1, 4  
 4. 5, 2, 3, 1, 4

Question ID : 26433067245  
Option 1 ID : 264330263492  
Option 2 ID : 264330263494  
Option 3 ID : 264330263493  
Option 4 ID : 264330263495  
Status : Answered  
Chosen Option : 2

Q.15 मनोहर पश्चिम की ओर X km साइकिल चलाता है, और फिर दाएं मुड़ता है, और अपने कार्यालय पहुँचने के लिए Y km साइकिल चलाता है। अब प्रारंभिक बिंदु और उसके कार्यालय के बीच की न्यूनतम दूरी 13 km है। X और Y का मान क्रमशः (km में) कितना हो सकता है?

Ans  1. 8 और 5  
 2. 12 और 5  
 3. 6 और 7  
 4. 11 और 6

Question ID : 264330129770  
Option 1 ID : 264330508312  
Option 2 ID : 264330508314  
Option 3 ID : 264330508311  
Option 4 ID : 264330508313  
Status : Answered  
Chosen Option : 2

Q.16 कौन-सा अक्षर-समूह प्रश्नचिह्न (?) के स्थान पर आकर दी गई श्रृंखला को पूर्ण करेगा?  
AXFN, GCJQ, MHNT, ?, YRVZ

Ans  1. SMRW  
 2. SWMR  
 3. RLQV  
 4. QRLV

Question ID : 26433076666  
Option 1 ID : 264330300731  
Option 2 ID : 264330300729  
Option 3 ID : 264330300730  
Option 4 ID : 264330300728  
Status : Answered  
Chosen Option : 1

Q.17 उस विकल्प का चयन करें, जो तीसरे शब्द से उसी प्रकार संबंधित है, जिस प्रकार दूसरा शब्द पहले शब्द से संबंधित है। (शब्दों को अर्थपूर्ण शब्दों के रूप में माना जाना चाहिए, और इन्हें शब्द में अक्षरों की संख्या/व्यंजनों की संख्या/स्वरों की संख्या के आधार पर एक-दूसरे से संबद्ध नहीं किया जाना चाहिए।)  
कलाकार (Artist) : पेंट करना (Painting) :: मोची (Cobbler) : ?

- Ans
- 1. कपड़े सिलना (Stitching clothes)
  - 2. विद्युतीय मरम्मत कार्य करना (Fixes electricity)
  - 3. जूतों की मरम्मत करना (Fixing shoes)
  - 4. लकड़ी संबंधी मरम्मत कार्य करना (Wooden repair work)

Question ID : 26433087295  
Option 1 ID : 264330342817  
Option 2 ID : 264330342820  
Option 3 ID : 264330342818  
Option 4 ID : 264330342819  
Status : Answered  
Chosen Option : 3

Q.18 यदि '+' का अर्थ '-', '-' का अर्थ 'x', 'x' का अर्थ '+', '+' का अर्थ '+' हो, तो निम्नलिखित समीकरण में प्रश्न चिह्न (?) के स्थान पर क्या आएगा?  
 $23 - 5 \div 240 \times 8 + 14 = ?$

- Ans
- 1. 145
  - 2. 119
  - 3. 131
  - 4. 124

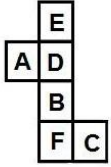
Question ID : 264330126057  
Option 1 ID : 264330493903  
Option 2 ID : 264330493900  
Option 3 ID : 264330493901  
Option 4 ID : 264330493902  
Status : Answered  
Chosen Option : 3

Q.19 उस विकल्प का चयन कीजिये जो तीसरे पद से उसी प्रकार संबंधित है जैसे दूसरा पद पहले पद से और छठा पद पांचवें पद से संबंधित है।  
 $16 : 106 :: 11 : ? :: 10 : 22$

- Ans
- 1. 42
  - 2. 40
  - 3. 36
  - 4. 31

Question ID : 26433079160  
Option 1 ID : 264330310644  
Option 2 ID : 264330310645  
Option 3 ID : 264330310646  
Option 4 ID : 264330310647  
Status : Answered  
Chosen Option : 4

Q.20 दी गई शीट को मोड़कर एक घन बनाया जाता है। निर्मित घन में 'F' वाले फलक के विपरीत फलक पर कौन-सा अक्षर होगा?



- Ans
- 1. E
  - 2. B
  - 3. D
  - 4. A

Question ID : 26433065671

Option 1 ID : 264330257244

Option 2 ID : 264330257246

Option 3 ID : 264330257245

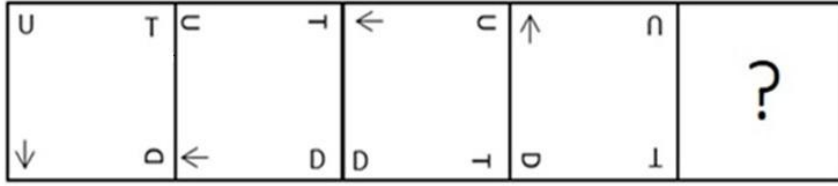
Option 4 ID : 264330257247

Status : Answered

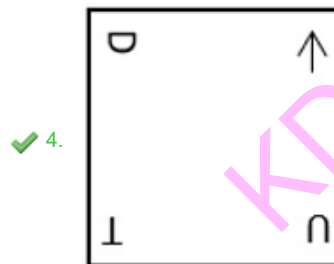
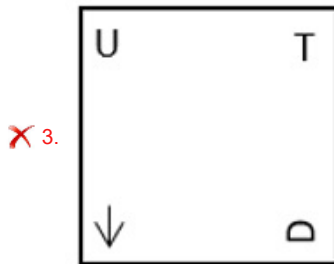
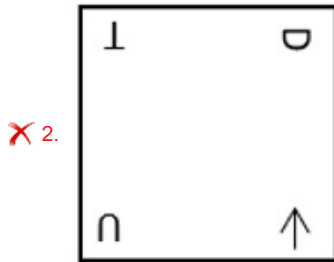
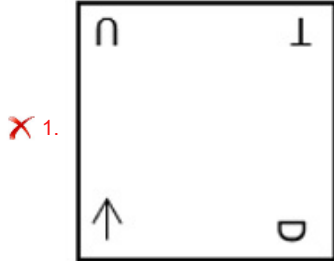
Chosen Option : 3

KD JOB UPDATES

Q.21 यदि निम्नलिखित आकृति श्रृंखला को जारी रखा जाए, तो दिए गए विकल्पों में से कौन-सी आकृति प्रश्नवाचक चिन्ह (?) को प्रतिस्थापित करेगी?



Ans



Question ID : 264330145479

Option 1 ID : 264330570171

Option 2 ID : 264330570173

Option 3 ID : 264330570172

Option 4 ID : 264330570174

Status : Answered

Chosen Option : 4

Q.22 उस सही विकल्प का चयन कीजिए, जो दिए गए शब्दों के उसी क्रम में व्यवस्थापन को दर्शाता है, जिस क्रम में वे अंग्रेजी शब्दकोश में मौजूद होते हैं।

1. Doctor
2. Doctorate
3. Docile
4. Documentary
5. Dock
6. Doctrine

Ans  1. 3, 4, 5, 1, 2, 6,  
 2. 3, 5, 2, 1, 6, 4  
 3. 3, 5, 1, 2, 6, 4  
 4. 3, 5, 1, 6, 2, 4

Question ID : 264330145375

Option 1 ID : 264330569756

Option 2 ID : 264330569757

Option 3 ID : 264330569755

Option 4 ID : 264330569758

Status : Answered

Chosen Option : 3

Q.23 एक निश्चित कूट भाषा में "ACTOR" को ROYCA के रूप में कूटबद्ध किया जाता है, और "NURSE" को ESWUN के रूप में कूटबद्ध किया जाता है। उसी कूट भाषा में "JUDGE" को किस प्रकार कूटबद्ध किया जाएगा?

Ans  1. EGUIJ  
 2. GEIUJ  
 3. EGJUI  
 4. EGIUJ

Question ID : 264330132201

Option 1 ID : 264330517899

Option 2 ID : 264330517900

Option 3 ID : 264330517902

Option 4 ID : 264330517901

Status : Answered

Chosen Option : 4

Q.24 उस विकल्प का चयन करें, जो उन अक्षरों को निरूपित करता है, जिन्हें नीचे दिए गए रिक्त स्थानों में क्रमिक रूप से बाएं से दाएं रखे जाने पर दी गई अक्षर श्रृंखला पूरी हो जाएगी।

F \_ \_ Y \_ \_ K B \_ O F \_ B Y \_ \_

Ans  1. KBOFYKO  
 2. OFKBOYK  
 3. YOKBFOK  
 4. BYOKFOK

Question ID : 26433086955

Option 1 ID : 264330341464

Option 2 ID : 264330341462

Option 3 ID : 264330341463

Option 4 ID : 264330341461

Status : Answered

Chosen Option : 1

Q.25 छह व्यक्ति एक वृत्ताकार मेज के परितः केंद्र की ओर मुख करके बैठे हैं। P, Q के बाईं ओर दूसरे स्थान पर बैठा है। S, Q और U दोनों के ठीक बगल में है। T, R के बाईं ओर दूसरे स्थान पर बैठा है। P और U, दोनों के ठीक बगल में कौन बैठा है?

- Ans  1. T  
 2. Q  
 3. R  
 4. S

Question ID : 26433068169  
Option 1 ID : 264330267188  
Option 2 ID : 264330267191  
Option 3 ID : 264330267189  
Option 4 ID : 264330267190  
Status : Answered  
Chosen Option : 3

Q.26 दिए गए समीकरण को सही बनाने के लिए किन दो गणितीय चिह्न को आपस में बदला जाना चाहिए?

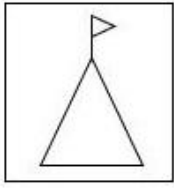
$$15 \times 3 \div 15 - (45 \times 3) - 10 + (13 \div 2) = 76$$

- Ans  1. + और +  
 2. + और ×  
 3. × और +  
 4. × और -

Question ID : 264330145314  
Option 1 ID : 264330569511  
Option 2 ID : 264330569512  
Option 3 ID : 264330569514  
Option 4 ID : 264330569513  
Status : Answered  
Chosen Option : 2

KD JOB UPDATES

Q.27 जब दर्पण को रेखा MN पर रखा जाता है, तो दी गई आकृति का सही दर्पण प्रतिबिंब ज्ञात कीजिए।

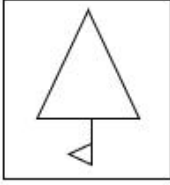


M

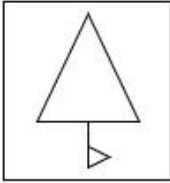
N

Ans

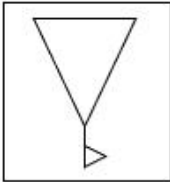
✗ 1.



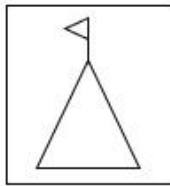
✗ 2.



✗ 3.



✓ 4.



KD JOB UPDATES

Question ID : 26433056623

Option 1 ID : 264330221476

Option 2 ID : 264330221477

Option 3 ID : 264330221478

Option 4 ID : 264330221479

Status : Answered

Chosen Option : 4

Q.28 नीचे दिए गए चार अक्षर-समूहों में से तीन किसी प्रकार से आपस में संबंधित हैं और कोई एक उनसे असंगत है। असंगत अक्षर-समूह का चयन कीजिए।

Ans ✓ 1. XOTP

✗ 2. UQYR

✗ 3. NJRK

✗ 4. GCKD

Question ID : 264330180754

Option 1 ID : 264330708983

Option 2 ID : 264330708985

Option 3 ID : 264330708984

Option 4 ID : 264330708986

Status : Answered

Chosen Option : 1

Q.29 आंटी ग्लोरिया अपने घर से निकलती है, और पूर्व की ओर 65 m चलती है। वह बाएं मुड़ती है, और 28 m चलती है। वह फिर से बाएं मुड़ती है, और एक सार्वजनिक पुस्तकालय तक पहुंचने के लिए 110 m चलती है। आंटी ग्लोरिया के घर से पुस्तकालय कितनी दूर (न्यूनतम दूरी) और किस दिशा में है?

- Ans  1. 53 m, उत्तर-पश्चिम  
 2. 48 m, उत्तर-पूर्व  
 3. 53 m, उत्तर-पूर्व  
 4. 48 m, उत्तर-पश्चिम

Question ID : 26433057306  
Option 1 ID : 264330224210  
Option 2 ID : 264330224211  
Option 3 ID : 264330224208  
Option 4 ID : 264330224209  
Status : Answered  
Chosen Option : 1

Q.30 'F \$ G' का अर्थ है कि 'F, G की माता है'  
'F # G' का अर्थ है कि 'F, G का पिता है'  
'F @ G' का अर्थ है कि 'F, G का पति है'  
'F % G' का अर्थ है कि 'F, G की पुत्री है'  
यदि J @ C \$ B # R है, तो J का R से क्या संबंध है?

- Ans  1. बुआ  
 2. दादा  
 3. मामा  
 4. पिता

Question ID : 264330145392  
Option 1 ID : 264330569826  
Option 2 ID : 264330569824  
Option 3 ID : 264330569823  
Option 4 ID : 264330569825  
Status : Answered  
Chosen Option : 2

Q.31 उस विकल्प का चयन करें, जो पांचवें अक्षर-समूह से उसी प्रकार संबंधित है, जिस प्रकार दूसरा अक्षर-समूह पहले अक्षर-समूह से संबंधित है, और चौथा अक्षर-समूह तीसरे अक्षर-समूह से संबंधित है।

INDIA : FKAFX :: ESTONIA : BPQLKFX :: MALAYSIA : ?

- Ans  1. JXIXFXVP  
 2. JXVPFXXI  
 3. JPFXXIXV  
 4. JXIXVPFX

Question ID : 264330145395  
Option 1 ID : 264330569837  
Option 2 ID : 264330569835  
Option 3 ID : 264330569836  
Option 4 ID : 264330569838  
Status : Answered  
Chosen Option : 4



Q.32 छः विद्यार्थी प्रतीक, समीर, कबीर, जिया, जोसेफ, किरण एक वृत्ताकार मेज के परितः केंद्र की ओर मुख करके बैठे हैं (उनका इसी क्रम में होना अनिवार्य नहीं है)। प्रतीक, समीर और कबीर दोनों के ठीक बगल में है। जिया, समीर के दाईं ओर दूसरे स्थान पर बैठी है। किरण, कबीर के बाईं ओर तीसरे स्थान पर बैठी है। जोसेफ, जिया और कबीर दोनों के ठीक बगल में है। जिया के ठीक बगल में कौन है?

- Ans
- 1. कबीर
  - 2. समीर
  - 3. किरण
  - 4. प्रतीक

Question ID : 26433082279

Option 1 ID : 264330322949

Option 2 ID : 264330322952

Option 3 ID : 264330322951

Option 4 ID : 264330322950

Status : Answered

Chosen Option : 3

Q.33 दो कथन दिए गए हैं, जिसके बाद दो निष्कर्ष I और II दिए गए हैं। कथनों को सत्य मानते हुए, भले ही वे सामान्य रूप से ज्ञात तथ्यों से भिन्न प्रतीत होते हों, निर्धारित करें कि कौन-से निष्कर्ष कथनों का तार्किक रूप से पालन करते हैं?

कथन:

कुछ नदियां महासागर हैं।

सभी महासागर समुद्र-तट हैं।

निष्कर्ष:

I. कुछ नदियां समुद्र-तट हैं।

II. सभी महासागर नदियां हैं।

- Ans
- 1. निष्कर्ष I और II दोनों पालन करते हैं
  - 2. न तो निष्कर्ष I और न ही निष्कर्ष II पालन करता है
  - 3. केवल निष्कर्ष II पालन करता है
  - 4. केवल निष्कर्ष I पालन करता है

Question ID : 26433056709

Option 1 ID : 264330221822

Option 2 ID : 264330221823

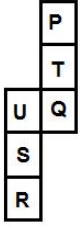
Option 3 ID : 264330221821

Option 4 ID : 264330221820

Status : Answered

Chosen Option : 4

Q.34 दी गई शीट को मोड़कर एक घन बनाया जाता है। निर्मित घन में विपरीत फलकों पर अक्षरों का कौन-सा युग्म होगा?



- Ans  1. T और S  
 2. U और T  
 3. P और U  
 4. R और P

Question ID : 26433065669  
Option 1 ID : 264330257238  
Option 2 ID : 264330257237  
Option 3 ID : 264330257236  
Option 4 ID : 264330257239  
Status : Answered  
Chosen Option : 1

Q.35 दो कथनों के बाद दो निष्कर्ष I और II दिए गए हैं। कथनों को सत्य मानते हुए, भले ही वे सामान्य रूप से ज्ञात तथ्यों से भिन्न प्रतीत होते हों, यह निर्णय लीजिए कि कौन-से निष्कर्ष कथनों का तार्किक रूप से पालन करते हैं?

कथन:

सभी चाय जूस हैं।

सभी जूस कॉकटेल हैं।

निष्कर्ष:

I. सभी चाय कॉकटेल हैं।

II. सभी कॉकटेल निश्चित रूप से जूस हैं।

- Ans  1. केवल निष्कर्ष II पालन करता है  
 2. केवल निष्कर्ष I पालन करता है  
 3. निष्कर्ष I और II दोनों पालन करते हैं  
 4. न तो निष्कर्ष I और न ही निष्कर्ष II पालन करता है

Question ID : 26433058039  
Option 1 ID : 264330227141  
Option 2 ID : 264330227140  
Option 3 ID : 264330227142  
Option 4 ID : 264330227143  
Status : Answered  
Chosen Option : 2

Q.36 निम्नलिखित में से कौन-सा अक्षर-समूह दी गई श्रृंखला में प्रश्न चिह्न (?) के स्थान पर आकर श्रृंखला को पूर्ण करेगा?

PJVG, VBZB, BTDW, HLHR, ?

- Ans  1. NDLM  
 2. MDLM  
 3. NDLN  
 4. MDLN

Question ID : 26433040789  
Option 1 ID : 264330159634  
Option 2 ID : 264330159632  
Option 3 ID : 264330159633  
Option 4 ID : 264330159631  
Status : Answered  
Chosen Option : 1

Q.37 यदि A का अर्थ '+' हो, B का अर्थ 'x' हो, C का अर्थ '-' हो और D का अर्थ '÷' हो, तो निम्नलिखित समीकरण का मान कितना होगा?  
21 B 14 C 154 D 14 A 42 = ?

- Ans
- 1. 342
  - 2. 352
  - 3. 325
  - 4. 357

Question ID : 264330129786

Option 1 ID : 264330508375

Option 2 ID : 264330508378

Option 3 ID : 264330508376

Option 4 ID : 264330508377

Status : Answered

Chosen Option : 3

Q.38 यदि A का अर्थ '+' है, B का अर्थ 'x' है, C का अर्थ '-' है और D का अर्थ '÷' है, तो निम्नलिखित व्यंजक का मान क्या होगा?

89 A 94 C 35 D 8 B 8 = ?

- Ans
- 1. 148
  - 2. 169
  - 3. 135
  - 4. 189

Question ID : 26433085363

Option 1 ID : 264330335156

Option 2 ID : 264330335153

Option 3 ID : 264330335155

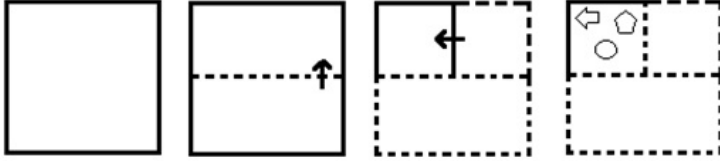
Option 4 ID : 264330335154

Status : Answered

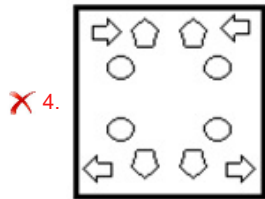
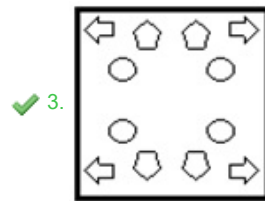
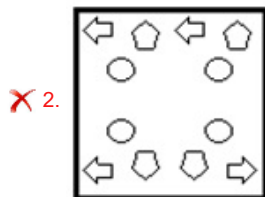
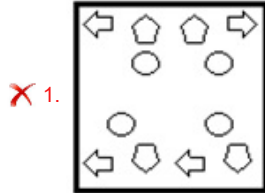
Chosen Option : 1

KD JOB UPDATES

Q.39 निम्नलिखित आकृतियों में कागज के एक टुकड़े को मोड़ने का क्रम और मुड़े हुए कागज को काटने का तरीका दर्शाया गया है। कागज की तह खुलने पर यह कैसा दिखाई देगा?



Ans



KD JOB UPDATES

Question ID : 26433074792  
 Option 1 ID : 264330293258  
 Option 2 ID : 264330293257  
 Option 3 ID : 264330293256  
 Option 4 ID : 264330293259

Status : Answered  
 Chosen Option : 3

Q.40 यदि A का अर्थ '+' है, B का अर्थ '×' है, C का अर्थ '-' है, और D का अर्थ '÷' है, तो निम्नलिखित समीकरण में '?' के स्थान पर क्या आएगा?  
 $56 D 8 B 7 = ? B 7$

- Ans  1. 12  
 2. 8  
 3. 7  
 4. 9

Question ID : 26433067665

Option 1 ID : 264330265173

Option 2 ID : 264330265172

Option 3 ID : 264330265174

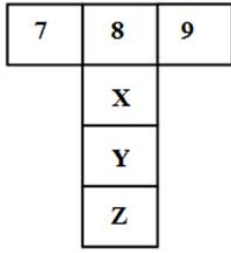
Option 4 ID : 264330265175

Status : Answered

Chosen Option : 3

KD JOB UPDATES

Q.41 यदि दी गई शीट को मोड़कर एक घन का आकार दिया जाता है, तो विकल्पों में से कौन-सी आकृति संभव है?

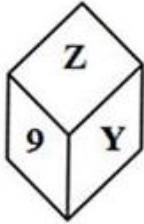


Ans

✗ 1.



✓ 2.



✗ 3.



✗ 4.



KD JOB UPDATES

Question ID : 26433059911

Option 1 ID : 264330234477

Option 2 ID : 264330234479

Option 3 ID : 264330234476

Option 4 ID : 264330234478

Status : Answered

Chosen Option : 2

Q.42 निम्नांकित में से कौन-सी संख्या दी गई श्रृंखला में प्रश्न चिह्न (?) के स्थान पर आएगी?

4, 11, 19, 31, 52, 89, ?

Ans  1. 151

2. 105

3. 150

4. 115

Question ID : 26433059922

Option 1 ID : 264330234521

Option 2 ID : 264330234522

Option 3 ID : 264330234523

Option 4 ID : 264330234520

Status : Answered

Chosen Option : 1

Q.43 निम्नलिखित में से कौन-सी संख्या दी गई श्रृंखला में प्रश्न-चिह्न (?) का स्थान लेगी?

134, 129, 122, ?, 102, 89

Ans  1. 111

2. 117

3. 113

4. 115

Question ID : 26433091010

Option 1 ID : 264330357452

Option 2 ID : 264330357450

Option 3 ID : 264330357449

Option 4 ID : 264330357451

Status : Answered

Chosen Option : 3

Q.44 यदि A का अर्थ '+' हो, B का अर्थ '×' हो, C का अर्थ '-' हो और D का अर्थ '÷' हो, तो निम्नलिखित समीकरण का मान कितना होगा?  
22 B 7 C 288 D 12 A 27 = ?

Ans  1. 103

2. 160

3. 130

4. 157

Question ID : 264330129782

Option 1 ID : 264330508359

Option 2 ID : 264330508362

Option 3 ID : 264330508360

Option 4 ID : 264330508361

Status : Answered

Chosen Option : 4

Q.45 अंग्रेजी वर्णमाला क्रम में स्थिति के आधार पर, निम्नलिखित में से तीन अक्षर-समूह किसी न किसी तरह से संगत हैं, और एक असंगत है। असंगत अक्षर-समूह का चयन करें।

- Ans  1. SWYX  
 2. LOQP  
 3. PTVU  
 4. RVXW

Question ID : 264330145353  
Option 1 ID : 264330569667  
Option 2 ID : 264330569669  
Option 3 ID : 264330569668  
Option 4 ID : 264330569670  
Status : Answered  
Chosen Option : 2

Q.46 उस विकल्प का चयन करें जो चौथे पद से उसी प्रकार संबंधित है जिस प्रकार पहला पद, दूसरे पद से संबंधित है और पांचवां पद, छठे पद से संबंधित है।  
12 : 64 :: ? : 116 :: 32 : 144

- Ans  1. 25  
 2. 35  
 3. 14  
 4. 46

Question ID : 26433079359  
Option 1 ID : 264330311427  
Option 2 ID : 264330311425  
Option 3 ID : 264330311424  
Option 4 ID : 264330311426  
Status : Answered  
Chosen Option : 1

Q.47 दर्पण को चित्र में दिखाए अनुसार MN पर रखे जाने पर दी गई आकृति के सही दर्पण प्रतिबिम्ब का चयन करें।

M  
8BEYTK@8  
N

- Ans  1. 8@TKYEB8  
 2. 8&TKYEB8  
 3. 8&TKYEB8  
 4. 8@TKYEB8

Question ID : 26433085395  
Option 1 ID : 264330335282  
Option 2 ID : 264330335281  
Option 3 ID : 264330335284  
Option 4 ID : 264330335283  
Status : Answered  
Chosen Option : 4



Q.48 एक निश्चित कूट भाषा में, "ALIVE" को 64 और "HALL" को 45 के रूप में कूटबद्ध किया जाता है। उसी कूट भाषा में "MOVIE" को किस प्रकार कूटबद्ध किया जाएगा?

- Ans
- 1. 71
  - 2. 79
  - 3. 58
  - 4. 80

Question ID : 26433074710  
Option 1 ID : 264330292929  
Option 2 ID : 264330292930  
Option 3 ID : 264330292931  
Option 4 ID : 264330292928  
Status : Answered  
Chosen Option : 2

Q.49 किसी निश्चित कूट भाषा में, "EARS" को "4268" के रूप में कूटबद्ध किया जाता है, और "NICE" को "9723" के रूप में कूटबद्ध किया जाता है। दी गई उस कूट भाषा में "E" के लिए कूट क्या है?

- Ans
- 1. 9
  - 2. 4
  - 3. 2
  - 4. 3

Question ID : 264330169653  
Option 1 ID : 264330665314  
Option 2 ID : 264330665311  
Option 3 ID : 264330665313  
Option 4 ID : 264330665312  
Status : Answered  
Chosen Option : 3

Q.50 उस समुच्चय का चयन कीजिए जिसमें संख्याएँ एक-दूसरे से उसी प्रकार संबंधित हैं जिस प्रकार निम्नलिखित समुच्चय की संख्याएँ आपस में संबंधित हैं।

(नोट: संख्याओं को उसके घटक अंकों में विभाजित किए बिना, पूर्ण संख्याओं पर गणितीय संक्रियाएँ की जानी चाहिए। उदाहरण के लिए 13 - संख्या 13 पर गणितीय संक्रियाएँ जैसे कि जोड़ना / घटाना / गुणा करना आदि को 13 से किया जा सकता है। 13 को 1 और 3 में तोड़ना और फिर 1 और 3 पर गणितीय संक्रियाएँ करने की अनुमति नहीं है)

(9, 1, 19)  
(5, 2, 14)

- Ans
- 1. (4,7,37)
  - 2. (3,2,10)
  - 3. (3,5,56)
  - 4. (2,5,12)

Question ID : 264330145321  
Option 1 ID : 264330569540  
Option 2 ID : 264330569541  
Option 3 ID : 264330569539  
Option 4 ID : 264330569542  
Status : Answered  
Chosen Option : 2

Q.1 भारतीय संविधान का निम्नलिखित में से कौन सा अनुच्छेद संसद को सशस्त्र बलों, अर्ध-सैन्य बलों, पुलिस बलों, खुफिया एजेंसियों और समान बलों के सदस्यों के मूल अधिकारों को निर्बंधित या निराकृत करने का अधिकार देता है?

- Ans
- 1. अनुच्छेद 35
  - 2. अनुच्छेद 31
  - 3. अनुच्छेद 33
  - 4. अनुच्छेद 37

Question ID : 264330113391  
Option 1 ID : 264330445651  
Option 2 ID : 264330445649  
Option 3 ID : 264330445652  
Option 4 ID : 264330445650  
Status : Answered  
Chosen Option : 4

Q.2 कोशिका चक्र के किस चरण के दौरान उपापचय परिवर्तन, समसूत्रण (mitosis) और कोशिकाद्रव्य विभाजन (cytokinesis) के लिए आवश्यक कोशिकाद्रव्यिक सामग्री को एकत्र करते हैं?

- Ans
- 1. G2 चरण
  - 2. M चरण
  - 3. S चरण
  - 4. G1 चरण

Question ID : 264330145197  
Option 1 ID : 264330569045  
Option 2 ID : 264330569046  
Option 3 ID : 264330569043  
Option 4 ID : 264330569044  
Status : Not Answered  
Chosen Option : --

Q.3 विजयनगर राज्य की स्थापना 1336 में \_\_\_\_\_ द्वारा की गई थी।

- Ans
- 1. हरिहर और बुक्का
  - 2. कृष्णदेवराय
  - 3. देवराय द्वितीय
  - 4. वेंकट द्वितीय

Question ID : 264330106565  
Option 1 ID : 264330418561  
Option 2 ID : 264330418562  
Option 3 ID : 264330418564  
Option 4 ID : 264330418563  
Status : Answered  
Chosen Option : 1

Q.4 73वें संविधान संशोधन की मुख्य विशेषताओं के बारे में निम्नलिखित में से कौन-सा गलत है?

- Ans
- 1. इस अधिनियम के जरिए भारतीय संविधान में ग्यारहवीं अनुसूची जोड़ी गयी है।
  - 2. इसमें पंचायतों के 29 कार्यात्मक विषय हैं, और इनका संबंध अनुच्छेद 243 से 243 (O) तक है।
  - 3. इस अधिनियम का संबंध भारतीय संविधान के भाग III से है।
  - 4. यह अधिनियम पंचायती राज संस्थाओं को संवैधानिक दर्जा प्रदान करता है।

Question ID : 264330145272

Option 1 ID : 264330569344

Option 2 ID : 264330569345

Option 3 ID : 264330569343

Option 4 ID : 264330569346

Status : Answered

Chosen Option : 3

Q.5 वडाली ब्रदर्स \_\_\_\_\_ गायक हैं।

- Ans
- 1. पांडवानी
  - 2. भाटियाली
  - 3. लावणी
  - 4. सूफ़ी

Question ID : 264330145157

Option 1 ID : 264330568885

Option 2 ID : 264330568886

Option 3 ID : 264330568883

Option 4 ID : 264330568884

Status : Not Answered

Chosen Option : --

Q.6 हरिप्रिया नंबूद्री किस भारतीय शास्त्रीय नृत्य की प्रतिपादक (exponent) हैं?

- Ans
- 1. ओडिसी
  - 2. भरतनाट्यम्
  - 3. कुचिपुड़ी
  - 4. कथकली

Question ID : 26433086721

Option 1 ID : 264330340527

Option 2 ID : 264330340525

Option 3 ID : 264330340528

Option 4 ID : 264330340526

Status : Not Answered

Chosen Option : --

Q.7 Expenditure of the government on health facilities, education and fixed-asset acquisition is termed as \_\_\_\_\_.

- Ans
- 1. capital expenditure
  - 2. non-plan revenue expenditure
  - 3. revenue expenditure
  - 4. plan expenditure

Question ID : 264330141435

Option 1 ID : 264330554077

Option 2 ID : 264330554078

Option 3 ID : 264330554075

Option 4 ID : 264330554076

Status : Answered

Chosen Option : 1

Q.8 निम्नलिखित में से कौन-सा मिलान गलत है?

- Ans
- 1. दाब - पास्कल
  - 2. किया गया कार्य - जूल
  - 3. आयतन - मीटर
  - 4. बल - न्यूटन

Question ID : 264330131764  
Option 1 ID : 264330516158  
Option 2 ID : 264330516155  
Option 3 ID : 264330516157  
Option 4 ID : 264330516156  
Status : Answered  
Chosen Option : 3

Q.9 2011 की जनगणना के अनुसार, भारत में ग्रामीण साक्षरता दर कितनी थी?

- Ans
- 1. 67.77%
  - 2. 69.00%
  - 3. 66.77%
  - 4. 67.00%

Question ID : 264330110657  
Option 1 ID : 264330434908  
Option 2 ID : 264330434907  
Option 3 ID : 264330434905  
Option 4 ID : 264330434906  
Status : Not Answered  
Chosen Option : --

Q.10 निम्नलिखित में से कौन-सा नीतिगत उपाय, उदारीकरण की दिशा में एक कदम है?

- Ans
- 1. टैरिफ बढ़ाना
  - 2. पूंजी संचय पर सीमाएं आरोपित करना
  - 3. अधिकांश वस्तुओं/माल के आयात के लिए लाइसेंस समाप्त करना
  - 4. बैंक आरक्षित निधियों के लिए आवश्यकताओं और ब्याज दरों पर प्रतिबंधों को बढ़ाना

Question ID : 26433064579  
Option 1 ID : 264330252910  
Option 2 ID : 264330252908  
Option 3 ID : 264330252909  
Option 4 ID : 264330252911  
Status : Answered  
Chosen Option : 2

Q.11 निम्नलिखित में से कौन-सा विनिर्माण गतिविधि का उदाहरण नहीं है?

- Ans
- 1. लकड़ी से बना कागज़
  - 2. गन्ने से बनी चीनी
  - 3. ऋण और इक्विटी फंडों को मिलाकर बनाया गया म्यूचुअल फंड उत्पाद
  - 4. कपास से बना सूत

Question ID : 264330168856  
Option 1 ID : 264330662235  
Option 2 ID : 264330662236  
Option 3 ID : 264330662237  
Option 4 ID : 264330662238  
Status : Answered  
Chosen Option : 3

Q.12 स्विट्जरलैंड में आयोजित प्रतिष्ठित ज्यूरिख डायमंड लीग फाइनल 2022 जीतने वाले पहले भारतीय कौन बने?

- Ans
- 1. रमेशबाबू प्रज्ञानानंद (Rameshbabu Praggnanandhaa)
  - 2. पीवी सिंधु
  - 3. मैरी कॉम (Mary Kom)
  - 4. नीरज चोपड़ा

Question ID : 264330119248  
Option 1 ID : 264330467279  
Option 2 ID : 264330467281  
Option 3 ID : 264330467280  
Option 4 ID : 264330467282  
Status : Answered  
Chosen Option : 4

Q.13 हड़प्पा सभ्यता का मोहनजोदड़ो स्थल किस नदी के तट पर स्थित है?

- Ans
- 1. घाघरा नदी
  - 2. ब्यास नदी
  - 3. झेलम नदी
  - 4. सिन्धु नदी

Question ID : 264330164839  
Option 1 ID : 264330646483  
Option 2 ID : 264330646486  
Option 3 ID : 264330646485  
Option 4 ID : 264330646484  
Status : Answered  
Chosen Option : 4

Q.14 निम्नलिखित में से कौन-सी भारत के प्रथम राष्ट्रपति डॉ. राजेन्द्र प्रसाद की आत्मकथा है?

- Ans
- 1. आत्मकथा
  - 2. आत्मवृत्तांत
  - 3. माई कंट्री माई लाइफ
  - 4. ए शॉट एट हिस्ट्री

Question ID : 264330145182  
Option 1 ID : 264330568983  
Option 2 ID : 264330568986  
Option 3 ID : 264330568985  
Option 4 ID : 264330568984  
Status : Answered  
Chosen Option : 3

Q.15 पंचवर्षीय योजनाओं में से एक के दौरान, निम्नलिखित में से किस राजनेता ने 'गरीबी हटाओ' का नारा दिया था?

- Ans
- 1. इंदिरा गांधी
  - 2. मोरारजी देसाई
  - 3. ज्ञानी जैल सिंह
  - 4. चरण सिंह

Question ID : 264330145248  
Option 1 ID : 264330569248  
Option 2 ID : 264330569247  
Option 3 ID : 264330569249  
Option 4 ID : 264330569250  
Status : Answered  
Chosen Option : 1

Q.16 भारत की जनगणना 2011 के अनुसार, भारत में तीसरी सर्वाधिक बोली जाने वाली भाषा की पहचान कीजिए।

- Ans
- 1. तमिल
  - 2. मराठी
  - 3. बंगाली
  - 4. हिंदी

Question ID : 264330166809  
Option 1 ID : 264330654272  
Option 2 ID : 264330654273  
Option 3 ID : 264330654271  
Option 4 ID : 264330654274  
Status : Not Answered  
Chosen Option : --

Q.17 प्रोटीन की संरचना की व्याख्या किसने की?

- Ans
- 1. आर.एफ.रोज (RF Rose)
  - 2. पॉलिंग और कोरी (Pauling and Corey)
  - 3. एमिल फिशर (Emil Fischer)
  - 4. जॉनसन और क्रिस्टी (Johnson and Cristae)

Question ID : 26433086616  
Option 1 ID : 264330340106  
Option 2 ID : 264330340108  
Option 3 ID : 264330340105  
Option 4 ID : 264330340107  
Status : Answered  
Chosen Option : 1

Q.18 आम्र बौछार/आम्र वर्षा (Mango showers) क्या है?

- Ans
- 1. चक्रवात
  - 2. जेट प्रवाह
  - 3. पूर्व-मानसूनी वर्षा
  - 4. तूफान

Question ID : 264330169988  
Option 1 ID : 264330666628  
Option 2 ID : 264330666629  
Option 3 ID : 264330666627  
Option 4 ID : 264330666630  
Status : Answered  
Chosen Option : 3

Q.19 उत्तर पश्चिमी यूरोप, उत्तरी अमेरिका के पश्चिमी तट, कैलिफोर्निया के उत्तर, दक्षिणी चिली, दक्षिण-पूर्वी ऑस्ट्रेलिया और न्यूजीलैंड में किस प्रकार की जलवायु पाई जाती है?

- Ans
- 1. उष्णकटिबंधीय आर्द्र और शुष्क जलवायु (Tropical wet and dry climate)
  - 2. शीत बर्फाली वन जलवायु (Cold snow forest climate)
  - 3. उपोष्णकटिबंधीय स्टेपी जलवायु (Subtropical steppe climate)
  - 4. समुद्री पश्चिमी तट जलवायु (Marine west coast climate)

Question ID : 264330145190  
Option 1 ID : 264330569018  
Option 2 ID : 264330569016  
Option 3 ID : 264330569017  
Option 4 ID : 264330569015  
Status : Not Answered  
Chosen Option : --

Q.20 गंगा के मैदान में बाढ़ द्वारा जमा किया गया नया जलोढ़ निम्न में से कौन-सा है?

- Ans
- 1. कछार
  - 2. रेगुर
  - 3. खादर
  - 4. भांगर

Question ID : 264330119789  
Option 1 ID : 264330469431  
Option 2 ID : 264330469433  
Option 3 ID : 264330469432  
Option 4 ID : 264330469434  
Status : Answered  
Chosen Option : 3

Q.21 लाल रक्त कणिकाओं का व्यास कितना होता है?

- Ans
- 1. 2.0  $\mu\text{m}$
  - 2. 40.0  $\mu\text{m}$
  - 3. 4.0  $\mu\text{m}$
  - 4. 7.5  $\mu\text{m}$

Question ID : 264330145215  
Option 1 ID : 264330569115  
Option 2 ID : 264330569117  
Option 3 ID : 264330569118  
Option 4 ID : 264330569116  
Status : Not Answered  
Chosen Option : --

Q.22 निम्नलिखित में से किस खेल के शीर्ष राष्ट्रीय शासी निकाय का मुख्यालय नई दिल्ली में नहीं है?

- Ans
- 1. हॉकी इंडिया (Hockey India)
  - 2. बैडमिंटन एसोसिएशन ऑफ इंडिया (Badminton Association of India)
  - 3. भारतीय वॉलीबॉल संघ (Volleyball Federation of India)
  - 4. भारतीय एथलीट संघ (Athletes Federation of India)

Question ID : 26433092331  
Option 1 ID : 264330362622  
Option 2 ID : 264330362624  
Option 3 ID : 264330362621  
Option 4 ID : 264330362623  
Status : Not Answered  
Chosen Option : --

Q.23 उस विसंगति तत्व (anomaly element) की पहचान कीजिए, जो समूह 1 और समूह 17 दोनों से संबंधित हो।

- Ans
- 1. नाइट्रोजन
  - 2. हाइड्रोजन
  - 3. क्लोरीन
  - 4. ऑक्सीजन

Question ID : 264330134866  
Option 1 ID : 264330528401  
Option 2 ID : 264330528399  
Option 3 ID : 264330528402  
Option 4 ID : 264330528400  
Status : Answered  
Chosen Option : 2

Q.24 प्रतिनिधि सरकार के लिए गठबंधन में काम करने के लिए कांग्रेस और मुस्लिम लीग द्वारा \_\_\_\_\_ में लखनऊ समझौते पर हस्ताक्षर किए गए थे।

- Ans
- 1. 1914
  - 2. 1916
  - 3. 1918
  - 4. 1920

Question ID : 264330112346  
Option 1 ID : 264330441469  
Option 2 ID : 264330441470  
Option 3 ID : 264330441471  
Option 4 ID : 264330441472  
Status : Answered  
Chosen Option : 2

Q.25 निम्नलिखित में से किस मौर्य राजा ने कलिंग युद्ध के बाद बौद्ध धर्म और उसके अहिंसा के सिद्धांत को अपना लिया था?

- Ans
- 1. अशोक
  - 2. दशरथ
  - 3. बिंदुसार
  - 4. चन्द्रगुप्त मौर्य

Question ID : 264330165559  
Option 1 ID : 264330649317  
Option 2 ID : 264330649318  
Option 3 ID : 264330649316  
Option 4 ID : 264330649315  
Status : Answered  
Chosen Option : 1

Q.26 आयनन ऊर्जा के बारे में दिए गए सही या गलत कथनों की पहचान कीजिए।  
कथन A: किसी परमाणु की आयनन ऊर्जा, ऊर्जा की वह मात्रा है, जो गैस प्रावस्था में परमाणुओं के एक मोल से एक इलेक्ट्रॉन को निकालने के लिए आवश्यक होती है।  
कथन B: आयनन ऊर्जा, समूहों में शीर्ष से नीचे की ओर जाने पर बढ़ती है, और आवर्त में बाएँ से दाएँ जाने पर घटती है।

- Ans
- 1. केवल कथन A सही है
  - 2. कथन A और B दोनों गलत हैं
  - 3. कथन A और B दोनों सही हैं
  - 4. केवल कथन B सही है

Question ID : 264330137996  
Option 1 ID : 264330540591  
Option 2 ID : 264330540592  
Option 3 ID : 264330540594  
Option 4 ID : 264330540593  
Status : Not Answered  
Chosen Option : --



Q.27 जवाहरलाल नेहरू के अधीन भारत की राष्ट्रीय अंतरिम सरकार का गठन कब किया गया था?

- Ans
- 1. 2 सितंबर 1945
  - 2. 20 सितंबर 1946
  - 3. 2 सितंबर 1946
  - 4. 2 सितंबर 1947

Question ID : 264330106613  
Option 1 ID : 264330418753  
Option 2 ID : 264330418755  
Option 3 ID : 264330418756  
Option 4 ID : 264330418754  
Status : Answered  
Chosen Option : 3

Q.28 भारत का शास्त्रीय नृत्य मोहिनीअट्टम निम्नलिखित में से किस राज्य से संबंधित है?

- Ans
- 1. आंध्र प्रदेश
  - 2. केरल
  - 3. मणिपुर
  - 4. उत्तर प्रदेश

Question ID : 26433094863  
Option 1 ID : 264330372274  
Option 2 ID : 264330372276  
Option 3 ID : 264330372275  
Option 4 ID : 264330372273  
Status : Answered  
Chosen Option : 2

Q.29 निम्नलिखित में से कौन सी एक बंगाली अनपढ़ महिला की आत्मकथा है, जिसने उस समय पवित्र ग्रंथों को पढ़ने के लिए गुप्त रूप से साक्षरता कौशल हासिल किए थे, जब लड़कियों और महिलाओं को शिक्षा से वंचित रखा गया था, और केवल घर के कामों के लिए उपयुक्त समझा जाता था?

- Ans
- 1. लक्ष्मीबाई तिलक द्वारा लिखित स्मृतिचित्र (Smritichitre by Lakshmbai Tilak)
  - 2. कमला दास द्वारा लिखित एंते कथा (Ente Katha by Kamala Das)
  - 3. बेबी कांबले द्वारा लिखित जीना अमुचा (Jina Amucha by Baby Kamble)
  - 4. रससुंदरी देवी द्वारा लिखित अमार जीबन (Amar Jiban by Rassundari Devi)

Question ID : 26433071427  
Option 1 ID : 264330280132  
Option 2 ID : 264330280133  
Option 3 ID : 264330280135  
Option 4 ID : 264330280134  
Status : Not Answered  
Chosen Option : --

Q.30 भारतीय संविधान के निम्नलिखित में से किस अनुच्छेद यह प्रावधान है कि राज्यपाल मुख्यमंत्री की नियुक्ति करता है, और बाद में मुख्यमंत्री राज्यपाल से मंत्रियों की नियुक्ति की अनुशंसा करता है?

- Ans
- 1. अनुच्छेद 165
  - 2. अनुच्छेद 164
  - 3. अनुच्छेद 167
  - 4. अनुच्छेद 163

Question ID : 264330113440  
Option 1 ID : 264330445847  
Option 2 ID : 264330445848  
Option 3 ID : 264330445846  
Option 4 ID : 264330445845  
Status : Answered  
Chosen Option : 1

Q.31 गोपिका वर्मा ने 2019 में निम्नलिखित में से किस नृत्य शैली में संगीत नाटक अकादमी पुरस्कार जीता?

- Ans
- 1. कथक
  - 2. भरतनाट्यम्
  - 3. कुचिपुड़ी
  - 4. मोहिनीअट्टम

Question ID : 264330145155  
Option 1 ID : 264330568876  
Option 2 ID : 264330568877  
Option 3 ID : 264330568875  
Option 4 ID : 264330568878  
Status : Not Answered  
Chosen Option : --

Q.32 Which part of the Indian Constitution deals with directive principles of state policy?

- Ans
- 1. Part IV
  - 2. Part V
  - 3. Part VII
  - 4. Part VI

Question ID : 264330111527  
Option 1 ID : 264330438193  
Option 2 ID : 264330438194  
Option 3 ID : 264330438196  
Option 4 ID : 264330438195  
Status : Answered  
Chosen Option : 1

Q.33 बोरॉन परिवार के किस तत्व का कथनांक उच्च होता है, जो इसे उन तापमानों को रिकॉर्ड करने के लिए आदर्श बनाता है, जिन पर अन्यथा थर्मामीटर वाष्पीकृत हो जाएगा?

- Ans
- 1. थैलियम
  - 2. इंडियम
  - 3. गैलियम
  - 4. एल्यूमिनियम

Question ID : 264330110058  
Option 1 ID : 264330432509  
Option 2 ID : 264330432511  
Option 3 ID : 264330432510  
Option 4 ID : 264330432512  
Status : Not Answered  
Chosen Option : --

Q.34 1983 में इसरो (ISRO) द्वारा लांच किए गए भूस्थिर उपग्रह का नाम क्या है, जो उच्च शक्ति टीवी प्रसारण और दूरसंचार राष्ट्रीय कवरेज ट्रांसपोंडर प्रदान करता है?

- Ans
- 1. RISAT-1
  - 2. GSAT-7
  - 3. भास्कर-1
  - 4. इनसैट-1B

Question ID : 264330111325  
Option 1 ID : 264330437386  
Option 2 ID : 264330437385  
Option 3 ID : 264330437387  
Option 4 ID : 264330437388  
Status : Answered  
Chosen Option : 4

Q.35 यूरोपीय लोग केवल व्यापार की मानसिकता से भारत आए थे। यह प्रवृत्ति निम्नलिखित में से किस यूरोपीय राष्ट्र द्वारा आरंभ की गई थी?

- Ans
- 1. पुर्तगाली
  - 2. डच
  - 3. ब्रिटेन
  - 4. फ्रेंच

Question ID : 264330165386  
Option 1 ID : 264330648625  
Option 2 ID : 264330648624  
Option 3 ID : 264330648626  
Option 4 ID : 264330648623  
Status : Answered  
Chosen Option : 1

Q.36 उस विशाल महामहाद्वीप का क्या नाम है, जो 200 मिलियन वर्ष पहले अस्तित्व में था, जब सभी महाद्वीप एक साथ थे?

- Ans
- 1. पैजिया
  - 2. भारत
  - 3. एशिया
  - 4. अमेरिका

Question ID : 26433064468  
Option 1 ID : 264330252467  
Option 2 ID : 264330252465  
Option 3 ID : 264330252464  
Option 4 ID : 264330252466  
Status : Answered  
Chosen Option : 1

Q.37 विश्व एथलेटिक्स चैम्पियनशिप 2022 में भारत ने कितने पदक जीते?

Ans  1. 3

2. 1

3. 4

4. 2

Question ID : 264330109685

Option 1 ID : 264330431019

Option 2 ID : 264330431017

Option 3 ID : 264330431020

Option 4 ID : 264330431018

Status : Answered

Chosen Option : 2

Q.38 निम्नलिखित में से कौन-सा कर समानुपातिक (proportional) प्रकृति का होता है?

Ans  1. पूंजी लाभ कर

2. आयकर

3. वस्तु एवं सेवा कर

4. निगम कर

Question ID : 264330145241

Option 1 ID : 264330569222

Option 2 ID : 264330569221

Option 3 ID : 264330569220

Option 4 ID : 264330569219

Status : Not Answered

Chosen Option : --

Q.39 निम्नलिखित में से कौन-सा, विटामिन D का सबसे महत्वपूर्ण स्वास्थ्य लाभ है?

Ans  1. किशोर आयु के बाद तीव्र वृद्धि

2. हृदय की धड़कन में वृद्धि करना

3. अस्थियों और मांसपेशियों को मजबूत बनाना

4. रक्तचाप कम करना

Question ID : 26433066708

Option 1 ID : 264330261356

Option 2 ID : 264330261359

Option 3 ID : 264330261357

Option 4 ID : 264330261358

Status : Answered

Chosen Option : 3

Q.40 दक्षिण भारत का निम्नलिखित में से कौन सा सांस्कृतिक उत्सव राजा महाबली की लोककथाओं से जुड़ा है?

Ans  1. पोंगल

2. उगादी

3. गुड़ी पड़वा

4. ओणम

Question ID : 264330145144

Option 1 ID : 264330568831

Option 2 ID : 264330568834

Option 3 ID : 264330568833

Option 4 ID : 264330568832

Status : Answered

Chosen Option : 1

Q.41 मोहिनीअट्टम निम्नलिखित में से किस राज्य से संबंधित है?

- Ans  1. छत्तीसगढ़  
 2. केरल  
 3. झारखंड  
 4. कर्नाटक

Question ID : 264330164789  
Option 1 ID : 264330646285  
Option 2 ID : 264330646283  
Option 3 ID : 264330646284  
Option 4 ID : 264330646286  
Status : Answered  
Chosen Option : 2

Q.42 भारतीय संविधान का कौन-सा अनुच्छेद राज्य के अधीन नियोजन के मामले में सभी नागरिकों के लिए समान अवसर प्रदान करता है?

- Ans  1. अनुच्छेद 18  
 2. अनुच्छेद 15  
 3. अनुच्छेद 16  
 4. अनुच्छेद 17

Question ID : 264330114489  
Option 1 ID : 264330450044  
Option 2 ID : 264330450041  
Option 3 ID : 264330450042  
Option 4 ID : 264330450043  
Status : Answered  
Chosen Option : 3

Q.43 भारत के निम्नलिखित में से किस स्थान पर दिन और रात्रि के तापमान में अधिकतम अंतर हो सकता है?

- Ans  1. जैसलमेर  
 2. तिरुवनंतपुरम  
 3. पोर्ट ब्लेयर  
 4. कन्याकुमारी

Question ID : 264330169312  
Option 1 ID : 264330664027  
Option 2 ID : 264330664028  
Option 3 ID : 264330664029  
Option 4 ID : 264330664030  
Status : Answered  
Chosen Option : 1

Q.44 भारत के राष्ट्रपति, संसद सदस्यों की निरर्हता के प्रश्न पर \_\_\_\_\_ के परामर्श से निर्णय लेते हैं।

- Ans  1. उप राष्ट्रपति  
 2. संसद  
 3. भारत के उच्चतम न्यायालय  
 4. भारत के निर्वाचन आयोग

Question ID : 264330130470  
Option 1 ID : 264330510992  
Option 2 ID : 264330510991  
Option 3 ID : 264330510993  
Option 4 ID : 264330510994  
Status : Answered  
Chosen Option : 2

Q.45 तैमूर का दिल्ली पर आक्रमण किस वर्ष में हुआ था?

- Ans
- 1. 1221 में
  - 2. 1492 में
  - 3. 1526 में
  - 4. 1398 में

Question ID : 264330109005

Option 1 ID : 264330428297

Option 2 ID : 264330428300

Option 3 ID : 264330428299

Option 4 ID : 264330428298

Status : Answered

Chosen Option : 1

Q.46 मध्यकालीन भारत की भक्ति परंपरा से संबंधित वह राजपूत राजकुमारी निम्नलिखित में से कौन थी, जिसके गीत भगवान श्री कृष्ण को समर्पित थे?

- Ans
- 1. मीराबाई
  - 2. मुद्दुपलानी
  - 3. अक्का महादेवी
  - 4. लाल देव

Question ID : 26433074821

Option 1 ID : 264330293373

Option 2 ID : 264330293375

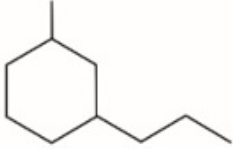
Option 3 ID : 264330293374

Option 4 ID : 264330293372

Status : Answered

Chosen Option : 1

Q.47 चित्र में दर्शाए गए कार्बनिक यौगिक का IUPAC नाम क्या है?



- Ans
- 1. 1-मेथिल-2-प्रोपिलसाइक्लोहेक्सेन
  - 2. 1-मेथिल-1-प्रोपिलसाइक्लोहेक्सेन
  - 3. 1-मेथिल-4-प्रोपिलसाइक्लोहेक्सेन
  - 4. 1-मेथिल-3-प्रोपिलसाइक्लोहेक्सेन

Question ID : 264330131672

Option 1 ID : 264330515788

Option 2 ID : 264330515787

Option 3 ID : 264330515790

Option 4 ID : 264330515789

Status : Answered

Chosen Option : 4

Q.48 फीफा महिला विश्व कप (FIFA Women's World Cup) 2023 की मेजबानी \_\_\_\_\_ द्वारा की जाएगी।

- Ans  1. ऑस्ट्रेलिया और न्यूजीलैंड (Australia and New Zealand)  
 2. फ्रांस और जर्मनी (France and Germany)  
 3. यूएसए और कनाडा (USA and Canada)  
 4. ब्राजील और अर्जेंटीना (Brazil and Argentina)

Question ID : 264330109845  
Option 1 ID : 264330431659  
Option 2 ID : 264330431657  
Option 3 ID : 264330431660  
Option 4 ID : 264330431658  
Status : Answered  
Chosen Option : 1

Q.49 Which of the following government departments is associated with infrastructure development in India?

- Ans  1. Division of Economic Agenda  
 2. Division of Electricity Agenda  
 3. Department of Energy Affairs  
 4. Department of Economic Affairs

Question ID : 264330163203  
Option 1 ID : 264330640124  
Option 2 ID : 264330640126  
Option 3 ID : 264330640123  
Option 4 ID : 264330640125  
Status : Answered  
Chosen Option : 4

Q.50 रोंगकर उत्सव निम्नलिखित में से किस जनजाति द्वारा मनाया जाता है?

- Ans  1. आओ  
 2. गोंड  
 3. कार्बी  
 4. भील

Question ID : 264330164804  
Option 1 ID : 264330646343  
Option 2 ID : 264330646345  
Option 3 ID : 264330646344  
Option 4 ID : 264330646346  
Status : Not Answered  
Chosen Option : --

Section : Quantitative Aptitude

Q.1 दो संख्याओं का लघुत्तम समापवर्त्य (LCM) 660 है, और महत्तम समापवर्तक (HCF) 5 है। यदि इनमें से एक संख्या 55 है, तो दूसरी संख्या ज्ञात कीजिए।

Ans  1. 60

2. 12

3. 275

4. 110

Question ID : 264330102312

Option 1 ID : 264330401715

Option 2 ID : 264330401713

Option 3 ID : 264330401714

Option 4 ID : 264330401716

Status : Answered

Chosen Option : 1

Q.2 यदि  $\sec A - \tan A = p$  है, तो  $\sec A$  का मान ज्ञात कीजिए।

Ans

1.  $\frac{p^2 - 1}{p^2 + 1}$

2.  $\frac{p^2 + 1}{2p}$

3.  $\frac{p^2 + 1}{p}$

4.  $\frac{p^2 + 1}{p^2 - 1}$

Question ID : 264330157747

Option 1 ID : 264330618350

Option 2 ID : 264330618347

Option 3 ID : 264330618348

Option 4 ID : 264330618349

Status : Answered

Chosen Option : 2

Q.3 निम्नलिखित व्यंजक का मान क्या होगा?

$$\frac{(3.254 \times 3.254 \times 3.254) - (0.746 \times 0.746 \times 0.746)}{(3.254 \times 3.254) + (0.746 \times 0.746) + (3.254 \times 0.746)}$$

Ans  1. 2.146

2. 3.156

3. 2.508

4. 4.508

Question ID : 264330157769

Option 1 ID : 264330618438

Option 2 ID : 264330618437

Option 3 ID : 264330618435

Option 4 ID : 264330618436

Status : Answered

Chosen Option : 3



Q.4 वह छोटी से छोटी प्राकृत संख्या कौन-सी है जो 96, 108 और 144 में से प्रत्येक से पूरी तरह से विभाज्य है?

Ans  1. 864

2. 1728

3. 2592

4. 1296

Question ID : 264330103227

Option 1 ID : 264330405215

Option 2 ID : 264330405216

Option 3 ID : 264330405214

Option 4 ID : 264330405213

Status : Answered

Chosen Option : 4

Q.5 नीचे दी गई तालिका 2001 से 2005 के दौरान दो कंपनियों P और Q द्वारा किए गए जूट के कपड़े के उत्पादन (लाख मीटर में) को दर्शाती है।

वर्ष	कंपनी P	कंपनी Q
2001	100	96
2002	120	130
2003	108	100
2004	190	180
2005	240	275

किस/किन वर्ष/वर्षों में, कंपनी Q ने, कंपनी P की तुलना में, अधिक कपड़े का उत्पादन किया?

Ans  1. 2005

2. 2002

3. 2003, 2005

4. 2002, 2005

Question ID : 264330165072

Option 1 ID : 264330647417

Option 2 ID : 264330647415

Option 3 ID : 264330647418

Option 4 ID : 264330647416

Status : Answered

Chosen Option : 4

Q.6

$\sqrt{\frac{1 - \tan A}{1 + \tan A}}$  का मान ज्ञात कीजिए।

Ans

✓ 1.  $\sqrt{\frac{1 - \sin 2A}{\cos 2A}}$

✗ 2.  $\sqrt{\frac{1 - \sin A}{\cos A}}$

✗ 3.  $\sqrt{\frac{1 + \sin A}{\cos A}}$

✗ 4.  $\sqrt{\frac{1 + \sin 2A}{\cos 2A}}$

Question ID : 264330131547

Option 1 ID : 264330515292

Option 2 ID : 264330515293

Option 3 ID : 264330515294

Option 4 ID : 264330515291

Status : Answered

Chosen Option : 1

Q.7 एक आयताकार मैदान का क्षेत्रफल  $480 \text{ m}^2$  है। यदि इसकी लंबाई, चौड़ाई से 20% अधिक हो, तो आयताकार मैदान की लंबाई ज्ञात कीजिए।

Ans ✗ 1. 30 m

✓ 2. 24 m

✗ 3. 27 m

✗ 4. 20 m

Question ID : 264330165653

Option 1 ID : 264330649691

Option 2 ID : 264330649693

Option 3 ID : 264330649692

Option 4 ID : 264330649694

Status : Answered

Chosen Option : 2

Q.8 दी गई तालिका का अध्ययन कीजिए और नीचे दिए गए प्रश्न का उत्तर दीजिए।

तालिका उन लोगों की संख्या दर्शाती है जिन्होंने संगीत की अपनी पसंदीदा शैली के बारे में एक सर्वेक्षण में प्रतिक्रिया दी है।

आयु	18-20	21-30	31+
शास्त्रीय	8	5	15
पाप	5	11	10
हिप-हॉप	6	9	8
रॉक	9	7	13
कुल	28	32	46

सर्वेक्षण किए गए कुल लोगों के कितने प्रतिशत ने संकेत दिया है कि उनकी पसंदीदा शैली रॉक संगीत है (दो दशमलव स्थान तक पूर्णांकित)?

- Ans
- 1. 29.65%
  - 2. 18.25%
  - 3. 22.35%
  - 4. 27.36%

Question ID : 264330158262  
Option 1 ID : 264330620410  
Option 2 ID : 264330620407  
Option 3 ID : 264330620408  
Option 4 ID : 264330620409  
Status : Answered  
Chosen Option : 4

Q.9 निम्नलिखित का मान ज्ञात कीजिए।

$$19 \div 5(27 - \overline{15 - 21}) + 37$$

- Ans
- 1.  $\frac{6124}{165}$
  - 2.  $\frac{6142}{165}$
  - 3.  $\frac{37}{165}$
  - 4.  $\frac{19}{165}$

Question ID : 26433073053  
Option 1 ID : 264330286406  
Option 2 ID : 264330286404  
Option 3 ID : 264330286407  
Option 4 ID : 264330286405  
Status : Marked For Review  
Chosen Option : 2

Q.10 एक विक्रेता ने एक मेज के क्रय मूल्य में 35% लाभ जोड़ने के बाद उसका विक्रय मूल्य ₹5,670 अंकित किया। चूँकि इस मूल्य स्तर पर बिक्री बहुत कम थी, इसलिए उसने मेज को 12% लाभ पर बेचने का फैसला किया। नया विक्रय मूल्य (₹में) ज्ञात कीजिए।

- Ans
- 1. 4,810
  - 2. 4,750
  - 3. 4,608
  - 4. 4,704

Question ID : 264330131519  
Option 1 ID : 264330515179  
Option 2 ID : 264330515180  
Option 3 ID : 264330515182  
Option 4 ID : 264330515181  
Status : Answered  
Chosen Option : 4

Q.11 बादाम के मूल्य में 10% की वृद्धि होने पर, बादाम की खपत में कितने प्रतिशत की कमी की जानी चाहिए, ताकि उस पर होने वाला खर्च पूर्ववत् ही रहे?

- Ans
- 1.  $8\frac{1}{11}\%$
  - 2.  $5\frac{3}{11}\%$
  - 3.  $10\frac{3}{11}\%$
  - 4.  $9\frac{1}{11}\%$

Question ID : 264330145038  
Option 1 ID : 264330568407  
Option 2 ID : 264330568410  
Option 3 ID : 264330568409  
Option 4 ID : 264330568408  
Status : Answered  
Chosen Option : 4

Q.12 तीन कारों को समान दूरी तय करने में लगने वाले समय का अनुपात 12 : 15 : 10 है। तीनों कारों की चालों का अनुपात ज्ञात करें।

- Ans
- 1. 4 : 5 : 6
  - 2. 5 : 6 : 4
  - 3. 5 : 4 : 6
  - 4. 4 : 6 : 5

Question ID : 264330103971  
Option 1 ID : 264330408186  
Option 2 ID : 264330408188  
Option 3 ID : 264330408185  
Option 4 ID : 264330408187  
Status : Answered  
Chosen Option : 3

Q.13 दो शंकुओं की ऊंचाई 7:5 के अनुपात में है और उनके व्यास का अनुपात 10:21 है। उनके आयतन का अनुपात ज्ञात करें। (जहाँ  $\pi = \frac{22}{7}$ )।

- Ans
- 1. 26:47
  - 2. 17:21
  - 3. 14:19
  - 4. 20:63

Question ID : 264330104376

Option 1 ID : 264330409808

Option 2 ID : 264330409805

Option 3 ID : 264330409807

Option 4 ID : 264330409806

Status : Answered

Chosen Option : 4

Q.14 रमेश ने एक बैंक से साधारण ब्याज की एक निश्चित दर पर ₹15,000 उधार लिए। उसने 5 वर्षों के बाद ₹6,000 (मूलधन है, लेकिन ब्याज नहीं होगा) चुकाए, और इसके बाद 5 और वर्षों के बाद उसने ₹18,600 का भुगतान किया, और अपना खाते का निपटान किया, तो साधारण ब्याज की वार्षिक दर ज्ञात कीजिए।

- Ans
- 1. 12%
  - 2. 8%
  - 3. 10%
  - 4. 6%

Question ID : 264330169924

Option 1 ID : 264330666374

Option 2 ID : 264330666372

Option 3 ID : 264330666373

Option 4 ID : 264330666371

Status : Marked For Review

Chosen Option : 2

Q.15 एक व्यक्ति के पास लोहे की तीन छड़ें हैं, जिनकी लंबाइयां क्रमशः 20, 30 और 40 मीटर हैं। वह तीनों छड़ों में से प्रत्येक से समान लंबाई के टुकड़े काटना चाहता है। यदि वह बिना किसी अपव्यय के टुकड़े काटता है, तो कुल टुकड़ों की न्यूनतम संख्या कितनी है?

- Ans
- 1. 8
  - 2. 11
  - 3. 9
  - 4. 10

Question ID : 26433063434

Option 1 ID : 264330248391

Option 2 ID : 264330248390

Option 3 ID : 264330248388

Option 4 ID : 264330248389

Status : Answered

Chosen Option : 3

Q.16 एक कार, 5 घंटे की अपनी पूरी यात्रा के दौरान, पहले 45 मिनट एक निश्चित चाल से, अगले 75 मिनट 85 km/h की चाल से, और अंतिम 3 घंटे 70 km/h की चाल से तय करती है। अपनी पूरी यात्रा के दौरान, कार की औसत चाल 73 km/h पाई जाती है। पहले 45 मिनट के दौरान कार की चाल (km/h में) ज्ञात करें।

- Ans  1. 72  
 2. 65  
 3. 68  
 4. 62

Question ID : 264330103989  
Option 1 ID : 264330408259  
Option 2 ID : 264330408258  
Option 3 ID : 264330408257  
Option 4 ID : 264330408260  
Status : Not Answered  
Chosen Option : --

Q.17 0.3, 0.8 और 0.108 का चतुर्थानुपाती (fourth proportional) क्या होगा?

- Ans  1. 0.124  
 2. 0.482  
 3. 0.144  
 4. 0.288

Question ID : 264330145036  
Option 1 ID : 264330568401  
Option 2 ID : 264330568402  
Option 3 ID : 264330568399  
Option 4 ID : 264330568400  
Status : Answered  
Chosen Option : 4

Q.18 पीटर ने 10% वार्षिक साधारण ब्याज देने वाली एक योजना में एक निश्चित राशि का निवेश किया, जबकि रेचल ने वार्षिक चक्रवृद्धि आधार पर गणनीय 10% वार्षिक ब्याज दर वाली एक योजना में पीटर से आधी राशि का निवेश किया। पीटर ने 2 वर्ष के लिए निवेश किया, तथा रेचल ने 3 वर्ष के लिए निवेश किया। यदि उनके द्वारा अर्जित ब्याजों में ₹897 का अंतर था, तो रेचल ने कितनी राशि का निवेश किया था?

- Ans  1. ₹12,900  
 2. ₹12,960  
 3. ₹13,100  
 4. ₹13,000

Question ID : 264330145053  
Option 1 ID : 264330568468  
Option 2 ID : 264330568467  
Option 3 ID : 264330568469  
Option 4 ID : 264330568470  
Status : Not Answered  
Chosen Option : --

Q.19 200 m और 250 m लंबी दो ट्रेनें समानांतर रेल पटरियों पर क्रमशः 68 km/h और 50 km/h की चाल से चल रही हैं। यदि वे एक ही दिशा में चल रही हैं, तो वे एक दूसरे को कितने समय में (सेकंड में) पार करेंगी?

- Ans  1. 75  
 2. 90  
 3. 80  
 4. 85

Question ID : 26433082986  
Option 1 ID : 264330325777  
Option 2 ID : 264330325780  
Option 3 ID : 264330325778  
Option 4 ID : 264330325779  
Status : Answered  
Chosen Option : 2

Q.20 दो संख्याओं का लघुत्तम समापवर्त्य (LCM) और महत्तम समापवर्तक (HCF) 1105 और 5 है। यदि लघुत्तम समापवर्त्य (LCM) पहली संख्या का 17 गुना है, तो दोनों संख्याएं ज्ञात कीजिए।

- Ans  1. 65 और 85  
 2. 60 और 80  
 3. 55 और 85  
 4. 65 और 75

Question ID : 26433065039  
Option 1 ID : 264330254748  
Option 2 ID : 264330254751  
Option 3 ID : 264330254750  
Option 4 ID : 264330254749  
Status : Answered  
Chosen Option : 1

KD JOB UPDATES

Q.21 निम्न तालिका गरीबी रेखा से नीचे के चार शहरों की प्रतिशत जनसंख्या और पुरुषों एवं महिलाओं का अनुपात दर्शाती है:

शहर	गरीबी रेखा से नीचे वाली जनसंख्या का प्रतिशत	गरीबी रेखा से नीचे	गरीबी रेखा से ऊपर
		पुरुष: महिला	पुरुष: महिला
A	10	1 : 3	3 : 2
B	15	3 : 4	1 : 2
C	20	2 : 3	5 : 3
D	25	4 : 5	5 : 4

यदि शहर C की कुल जनसंख्या 8000 है, तो राज्य C में गरीबी रेखा से ऊपर वाली महिलाओं की संख्या कितनी है?

- Ans  1. 2600  
 2. 2400  
 3. 2200  
 4. 2000

Question ID : 264330167244  
Option 1 ID : 264330655974  
Option 2 ID : 264330655973  
Option 3 ID : 264330655972  
Option 4 ID : 264330655971  
Status : Answered  
Chosen Option : 2

Q.22 एक ट्रेन दो स्टेशनों के बीच 540 km की दूरी 240 मिनट में तय करती है। यह 90 km/h की चाल से 5 घंटे में एक अन्य स्टेशन तक की यात्रा तय करती है। ट्रेन की औसत चाल (km/h में) कितनी है?

- Ans  1. 100  
 2. 110  
 3. 120  
 4. 112

Question ID : 264330106345  
Option 1 ID : 264330417682  
Option 2 ID : 264330417684  
Option 3 ID : 264330417683  
Option 4 ID : 264330417681  
Status : Not Answered  
Chosen Option : --



Q.23 एक कार्यालय में, 75 कर्मचारी एक परियोजना को 60 दिनों में पूरा कर सकते हैं। कुछ दिनों के बाद, 15 कर्मचारियों ने कार्य छोड़ दिया, और परियोजना 65 दिनों में पूर्ण हुई। 15 कर्मचारियों ने कितने दिनों के बाद कार्य छोड़ दिया था?

- Ans  1. 40  
 2. 30  
 3. 50  
 4. 45

Question ID : 264330118107

Option 1 ID : 264330464243

Option 2 ID : 264330464246


Option 3 ID : 264330464245

Option 4 ID : 264330464244

Status : Not Answered

Chosen Option : --

Q.24 निम्नांकित पाई-चार्ट एक परीक्षा में विभिन्न विषयों में अनुत्तीर्ण छात्रों की संख्या को दर्शाता है। चार्ट का अवलोकन कीजिए, और निम्नलिखित प्रश्न का उत्तर दीजिए। अनुत्तीर्ण होने वाले छात्रों की कुल संख्या 350 है।



Social = सामाजिक

English = अंग्रेजी

Hindi = हिंदी

Mathematics = गणित

Physics = भौतिकविज्ञान

Chemistry = रसायनविज्ञान

गणित में अनुत्तीर्ण छात्रों की संख्या, अन्य सभी विषयों में अनुत्तीर्ण छात्रों की संख्या से कितनी कम है?

- Ans  1. 190  
 2. 95  
 3. 256  
 4. 161

Question ID : 264330165435

Option 1 ID : 264330648822

Option 2 ID : 264330648819

Option 3 ID : 264330648821

Option 4 ID : 264330648820

Status : Answered

Chosen Option : 4

Q.25 अक्षिता और रैना एक किताब टाइप कर रहे हैं, लेकिन उनके पास कार्य करने के लिए केवल एक लैपटॉप है। उन्होंने तय किया कि वे बारी-बारी से कार्य करेंगे, जैसे कि अक्षिता पहले दिन कार्य करती है, रैना दूसरे दिन कार्य करती है, अक्षिता तीसरे दिन और इसी तरह आगे कार्य चलता रहता है। अक्षिता अकेले इस टाइपिंग कार्य को 16 दिनों में पूरा कर सकती है, जबकि रैना को अकेले पूरी किताब का कार्य करने के लिए 24 दिन लगेंगे। यदि वे बारी-बारी से कार्य करती हैं, तो उन्हें टाइपिंग का कार्य पूरा करने में कितने दिन लगेंगे?

- Ans
- 1. 17
  - 2. 19
  - 3. 15
  - 4. 18

Question ID : 26433082512

Option 1 ID : 264330323881

Option 2 ID : 264330323884

Option 3 ID : 264330323883

Option 4 ID : 264330323882

Status : Not Answered

Chosen Option : --

Q.26 उस त्रिभुज का क्षेत्रफल ज्ञात कीजिए, जिसकी दो भुजाओं की लंबाइयां 4 cm और 5 cm हैं, और उनके बीच का कोण  $45^\circ$  है।

- Ans
- 1.  $6\sqrt{2}$  cm<sup>2</sup>
  - 2.  $7\sqrt{2}$  cm<sup>2</sup>
  - 3.  $5\sqrt{2}$  cm<sup>2</sup>
  - 4.  $4\sqrt{2}$  cm<sup>2</sup>

Question ID : 264330103632

Option 1 ID : 264330406834

Option 2 ID : 264330406833

Option 3 ID : 264330406835

Option 4 ID : 264330406836

Status : Answered

Chosen Option : 3

Q.27 निम्न तालिका चार अलग-अलग वर्षों में चार अलग-अलग स्टोर द्वारा बेचे गए मोबाइल फोन की संख्या को दर्शाती है।

स्टोर	2012	2013	2014	2015
P	178	183	205	225
Q	133	198	220	235
R	284	250	220	198
S	225	243	199	205

2013 में स्टोर Q द्वारा बेचे गए मोबाइल फोन की संख्या, और 2015 में स्टोर S द्वारा बेचे गए मोबाइल फोन की संख्या के बीच का अंतर ज्ञात करें।

- Ans
- 1. 10
  - 2. 12
  - 3. 8
  - 4. 7

Question ID : 264330158616

Option 1 ID : 264330621823

Option 2 ID : 264330621825

Option 3 ID : 264330621826

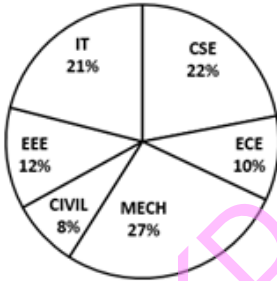
Option 4 ID : 264330621824

Status : Answered

Chosen Option : 4

Q.28 नीचे दिए गए पाई-चार्ट का अध्ययन कीजिए, और निम्नलिखित प्रश्न का उत्तर दीजिए। बीटेक में विशेषज्ञता के संदर्भ में छात्रों का प्रतिशत-वार विवरण

TOTAL NUMBER OF STUDENTS = 6700



Total Number of Students = छात्रों की कुल संख्या  
CSE, ECE और CIVIL में विशेषज्ञता रखने वाले छात्रों की कुल संख्या कितनी है?

- Ans
- 1. 2840
  - 2. 2680
  - 3. 2480
  - 4. 2860

Question ID : 264330165433

Option 1 ID : 264330648814

Option 2 ID : 264330648813

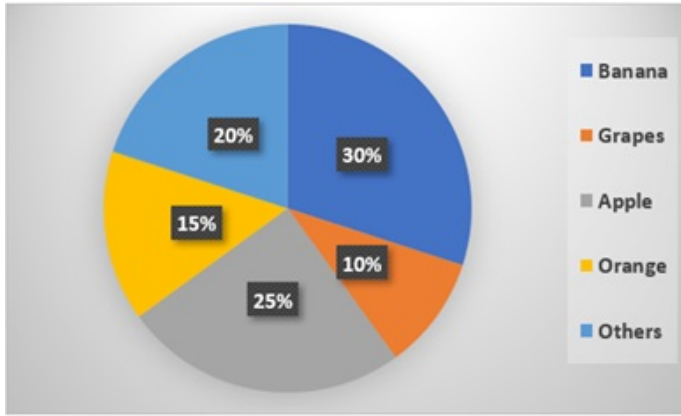
Option 3 ID : 264330648811

Option 4 ID : 264330648812

Status : Answered

Chosen Option : 2

Q.29 दिए गए पाई-चार्ट का अध्ययन करें, और निम्नलिखित प्रश्न का उत्तर दें।  
निम्न पाई-चार्ट एक दुकान में एक दिन में विभिन्न फलों की बिक्री को दर्शाता है।



Banana = केला, Grapes = अंगूर, Apple = सेब, Orange = संतरा, Others = अन्य  
यदि एक दिन में कुल 1200 kg फल बेचे गए, तो बेचे गए केलों की मात्रा (kg में) की गणना कीजिए।

- Ans
- 1. 260
  - 2. 330
  - 3. 290
  - 4. 360

Question ID : 264330157737

Option 1 ID : 264330618307

Option 2 ID : 264330618309

Option 3 ID : 264330618308

Option 4 ID : 264330618310

Status : Answered

Chosen Option : 4

Q.30  $\frac{(157 \times 157) + (157 \times 133) + (133 \times 133)}{(157 \times 157 \times 157) - (133 \times 133 \times 133)}$  का मान क्या होगा?

- Ans
- 1. 24
  - 2. 290
  - 3.  $\frac{1}{24}$
  - 4.  $\frac{1}{290}$

Question ID : 264330157765

Option 1 ID : 264330618419

Option 2 ID : 264330618421

Option 3 ID : 264330618420

Option 4 ID : 264330618422

Status : Answered

Chosen Option : 1

Q.31  $\Delta PQR$  में,  $\angle P:\angle Q:\angle R=3:4:8$  है। त्रिभुज की सबसे छोटी भुजा और सबसे बड़ी भुजा क्रमशः \_\_\_\_\_ हैं।

- Ans
- ✓ 1. QR और PQ
  - ✗ 2. QR और PR
  - ✗ 3. PQ और PR
  - ✗ 4. PQ और QR

Question ID : 264330158284  
Option 1 ID : 264330620497  
Option 2 ID : 264330620498  
Option 3 ID : 264330620496  
Option 4 ID : 264330620495  
Status : Answered  
Chosen Option : 1

Q.32 यदि किसी गोले का व्यास घटाकर आधा कर दिया जाए, तो उसके आयतन पर क्या प्रभाव पड़ेगा?

- Ans
- ✓ 1. पूर्व आयतन से  $\frac{1}{8}$  घट जाएगा
  - ✗ 2. पूर्व आयतन से  $\frac{1}{8}$  बढ़ जाएगा
  - ✗ 3. पूर्व आयतन से  $\frac{1}{4}$  घट जाएगा
  - ✗ 4. पूर्व आयतन से  $\frac{1}{4}$  बढ़ जाएगा

Question ID : 264330145110  
Option 1 ID : 264330568696  
Option 2 ID : 264330568698  
Option 3 ID : 264330568697  
Option 4 ID : 264330568695  
Status : Answered  
Chosen Option : 1

Q.33 यदि एक दुकानदार अपने ग्राहकों को 10% की छूट देता है, और फिर भी 30% का लाभ कमाता है, तो उस वस्तु का अंकित मूल्य ज्ञात करें, जिसका क्रय मूल्य ₹450 है।

- Ans
- ✗ 1. ₹750
  - ✓ 2. ₹650
  - ✗ 3. ₹500
  - ✗ 4. ₹700

Question ID : 264330104506  
Option 1 ID : 264330410328  
Option 2 ID : 264330410326  
Option 3 ID : 264330410325  
Option 4 ID : 264330410327  
Status : Answered  
Chosen Option : 2

Q.34 टॉम किसी कार्य को 7 दिनों में कर सकता है, जबकि जय उसी कार्य को 14 दिनों में कर सकता है। यदि दोनों एक साथ कार्य करते हैं, तो वे कार्य को पूरा करने में कितना समय लेंगे?

Ans

✗ 1.  $2\frac{2}{3}$  दिन

✓ 2.  $4\frac{2}{3}$  दिन

✗ 3.  $7\frac{2}{3}$  दिन

✗ 4.  $5\frac{2}{3}$  दिन

Question ID : 264330102373

Option 1 ID : 264330401959

Option 2 ID : 264330401958

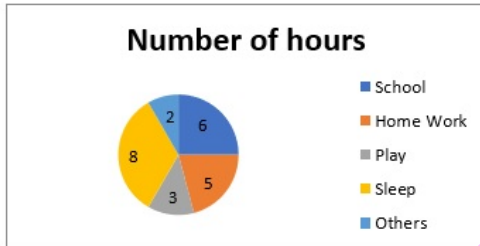
Option 3 ID : 264330401960

Option 4 ID : 264330401957

Status : Answered

Chosen Option : 2

Q.35 निम्न पाई चार्ट में एक छात्र द्वारा विभिन्न गतिविधियों में बिताए गए घंटों की संख्या को दिखाया गया है:



घंटों की संख्या

- स्कूल
- गृहकार्य
- खेलना
- सोना
- अन्य

सोने के समय का संगत केंद्रीय कोण, पूरे केंद्रीय कोण का कितना प्रतिशत है?

Ans

✗ 1. 66.66%

✗ 2. 55%

✓ 3. 33.33%

✗ 4. 50%

Question ID : 264330145081

Option 1 ID : 264330568580

Option 2 ID : 264330568582

Option 3 ID : 264330568579

Option 4 ID : 264330568581

Status : Answered

Chosen Option : 3

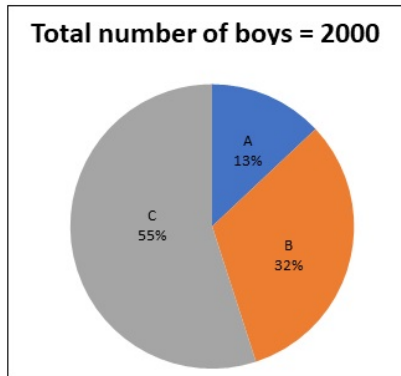
Q.36 36 cm व्यास वाले एक अर्धगोलाकार कंटेनर में द्रव रूप में एक दवा तैयार की जाती है। जब कंटेनर दवा से पूरा भरा होता है, तो दवा को 6 cm व्यास और 6 cm ऊंचाई वाली छोटी बेलनाकार बोतलों में स्थानांतरित किया जाता है। कंटेनर को खाली करने के लिए ऐसी कितनी बोतलों की आवश्यकता होगी?

- Ans  1. 72  
 2. 75  
 3. 70  
 4. 76

Question ID : 264330145118  
Option 1 ID : 264330568728  
Option 2 ID : 264330568729  
Option 3 ID : 264330568727  
Option 4 ID : 264330568730  
Status : Answered  
Chosen Option : 1

Q.37 दिए गए पाई-चार्ट का अध्ययन कीजिए और निम्नलिखित प्रश्न का उत्तर दीजिए।

पाई-चार्ट, विभिन्न स्कूलों (A, B, C) के प्ले ग्रुप में पढ़ने वाले लड़कों की संख्या को दर्शाता है।



Total Number of boys = 2000 ,लड़कों की कुल संख्या = 2000

स्कूल A और C में पढ़ने वाले लड़कों की औसत संख्या कितनी है?

- Ans  1. 560  
 2. 740  
 3. 920  
 4. 680

Question ID : 264330158278  
Option 1 ID : 264330620474  
Option 2 ID : 264330620472  
Option 3 ID : 264330620471  
Option 4 ID : 264330620473  
Status : Answered  
Chosen Option : 4

Q.38 In a circle centred at O, PQ is a tangent at P. Furthermore, AB is the chord of the circle and is extended to Q. If PQ = 12 cm and QB = 8 cm, then the length of AB is equal to:

- Ans
- 1. 8 cm
  - 2. 4 cm
  - 3. 20 cm
  - 4. 10 cm

Question ID : 264330165494

Option 1 ID : 264330649056

Option 2 ID : 264330649055

Option 3 ID : 264330649058

Option 4 ID : 264330649057

Status : Answered

Chosen Option : 4

Q.39 1000 km की दूरी तय करने के बाद, पटरियों की मरम्मत की वजह से एक ट्रेन धीमी हो गई। इस यात्रा के लिए इसकी औसत चाल में 75 km/h की कमी हो जाती है, और यात्रा का समय 3 घंटे बढ़ जाता है। यात्रा की मूल अवधि कितनी है?

- Ans
- 1. 6.5 घंटे
  - 2. 5 घंटे
  - 3. 5.5 घंटे
  - 4. 6 घंटे

Question ID : 264330104389

Option 1 ID : 264330409857

Option 2 ID : 264330409858

Option 3 ID : 264330409860

Option 4 ID : 264330409859

Status : Not Answered

Chosen Option : --

Q.40 ₹700 पर 35% की एकल छूट, और समान राशि पर 18% और 12% की दो क्रमिक छूटों के बीच का अंतर ज्ञात कीजिए (दशमलव के दो स्थानों तक पूर्णांकित करें)।

- Ans
- 1. ₹52.10
  - 2. ₹50.12
  - 3. ₹49.80
  - 4. ₹51.20

Question ID : 264330165523

Option 1 ID : 264330649172

Option 2 ID : 264330649173

Option 3 ID : 264330649174

Option 4 ID : 264330649171

Status : Answered

Chosen Option : 2



Q.41 3888 और 3969 का महत्तम समापवर्तक (HCF) ज्ञात कीजिए।

Ans  1. 83

2. 81

3. 73

4. 71

Question ID : 264330145042

Option 1 ID : 264330568425

Option 2 ID : 264330568423

Option 3 ID : 264330568426

Option 4 ID : 264330568424

Status : Answered

Chosen Option : 2

Q.42 तीन विक्रेताओं से गुजरने वाली एक ज़मीन का मूल्य में कुल मिलाकर 65% की वृद्धि होती है। पहले और दूसरे विक्रेता ने क्रमशः 20% और 25% लाभ अर्जित किया। तीसरे विक्रेता द्वारा अर्जित प्रतिशत लाभ ज्ञात कीजिए।

Ans  1. 10%

2. 20%

3. 25%

4. 15%

Question ID : 264330102343

Option 1 ID : 264330401838

Option 2 ID : 264330401837

Option 3 ID : 264330401840

Option 4 ID : 264330401839

Status : Not Answered

Chosen Option : --

Q.43 एक संख्या में पहले 28% की कमी की जाती है, और फिर 28% की वृद्धि की जाती है। इस प्रकार प्राप्त संख्या, मूल संख्या से 784 कम है। मूल संख्या ज्ञात करें।

Ans  1. 15000

2. 1500

3. 1000

4. 10000

Question ID : 264330103389

Option 1 ID : 264330405863

Option 2 ID : 264330405864

Option 3 ID : 264330405862

Option 4 ID : 264330405861

Status : Answered

Chosen Option : 4

Q.44 यदि  $7 \sin^2 A + 3 \cos^2 A = 4$  है, तो  $\cot A$  का मान ज्ञात कीजिए।

Ans

✗ 1.  $\frac{1}{\sqrt{3}}$

✓ 2.  $\sqrt{3}$

✗ 3.  $\frac{1}{\sqrt{2}}$

✗ 4.  $\sqrt{2}$

Question ID : 264330158421

Option 1 ID : 264330621044

Option 2 ID : 264330621043

Option 3 ID : 264330621046

Option 4 ID : 264330621045

Status : Answered

Chosen Option : 2

Q.45 धारा की विपरीत दिशा में एक नाव की चाल 8 km/h है, और धारा की दिशा में उस नाव की चाल 15 km/h है। शांत जल में नाव की चाल और धारा की चाल (km/h में) क्रमशः ज्ञात कीजिए।

Ans ✓ 1. 11.5 और 3.5

✗ 2. 3 और 11

✗ 3. 3.5 और 11.5

✗ 4. 11 और 3

Question ID : 264330119531

Option 1 ID : 264330468407

Option 2 ID : 264330468410

Option 3 ID : 264330468408

Option 4 ID : 264330468409

Status : Answered

Chosen Option : 1

Q.46  $2(\sin 1^\circ \times \sec 89^\circ) + 3(\cos 11^\circ \times \operatorname{cosec} 79^\circ) + 5(\tan 21^\circ \times \tan 69^\circ) = ?$

Ans ✓ 1. 10

✗ 2. 12

✗ 3. 11

✗ 4. 20

Question ID : 264330145124

Option 1 ID : 264330568754

Option 2 ID : 264330568751

Option 3 ID : 264330568753

Option 4 ID : 264330568752

Status : Answered

Chosen Option : 1

Q.47 एक स्टॉक का मूल्य पहले वर्ष में 30% बढ़ जाती है, और दूसरे वर्ष में 20% घट जाती है। यदि एक निवेशक ने ₹1,000 में उस स्टॉक के 100 शेयर खरीदे, तो 2 वर्ष बाद निवेश का अंतिम मूल्य कितना होगा?

- Ans
- 1. ₹960
  - 2. ₹1,040
  - 3. ₹1,020
  - 4. ₹1,400

Question ID : 264330157709  
Option 1 ID : 264330618198  
Option 2 ID : 264330618197  
Option 3 ID : 264330618195  
Option 4 ID : 264330618196  
Status : Answered  
Chosen Option : 2

Q.48 त्रिभुज ABC में, यदि  $\angle B = 90^\circ$ ,  $\angle C = 45^\circ$  और  $AC = 4 \text{ cm}$  है, तो BC का मान \_\_\_\_\_ है।

- Ans
- 1.  $2\sqrt{2} \text{ cm}$
  - 2.  $4\sqrt{2} \text{ cm}$
  - 3.  $\sqrt{2} \text{ cm}$
  - 4.  $4 \text{ cm}$

Question ID : 264330157741  
Option 1 ID : 264330618324  
Option 2 ID : 264330618323  
Option 3 ID : 264330618326  
Option 4 ID : 264330618325  
Status : Answered  
Chosen Option : 1

Q.49 मान लीजिए ABC और PQR दो सर्वांगसम त्रिभुज इस प्रकार हैं कि  $\angle A = \angle P = 90^\circ$  है। यदि  $BC = 17 \text{ cm}$ ,  $PR = 8 \text{ cm}$  है, तो AB का मान (cm में) ज्ञात कीजिए।

- Ans
- 1. 12
  - 2. 15
  - 3. 14
  - 4. 9

Question ID : 264330157743  
Option 1 ID : 264330618332  
Option 2 ID : 264330618334  
Option 3 ID : 264330618333  
Option 4 ID : 264330618331  
Status : Answered  
Chosen Option : 2

Q.50 240, 280 और 560 का महत्तम समापवर्तक (HCF) ज्ञात कीजिए।

Ans  1. 30

2. 40

3. 10

4. 20

Question ID : 26433065034

Option 1 ID : 264330254731

Option 2 ID : 264330254728

Option 3 ID : 264330254730

Option 4 ID : 264330254729

Status : Answered

Chosen Option : 2

Section : English Comprehension

Q.1 Choose the most appropriate meaning of the underlined phrase.  
What we need is skilled and energetic planning and elbow grease.

Ans  1. Hard work that one puts into removing grease

2. Hard work that one puts into doing something

3. The grease that is earned through labour

4. Hard work that one puts into cleaning one's elbow

Question ID : 264330137457

Option 1 ID : 264330538451

Option 2 ID : 264330538454

Option 3 ID : 264330538453

Option 4 ID : 264330538452

Status : Answered

Chosen Option : 2

Q.2 Select the most appropriate ANTONYM of the given word.

Abhor

Ans  1. Occupy

2. Love

3. Danger

4. Despise

Question ID : 264330163376

Option 1 ID : 264330640794

Option 2 ID : 264330640793

Option 3 ID : 264330640792

Option 4 ID : 264330640791

Status : Answered

Chosen Option : 2

**Q.3** Select the INCORRECTLY spelt word from the underlined words in the following sentence.

Communities must build their resileince, including adopting appropriate technologies while making the most of traditional knowledge, and diversifying their livelihoods to cope with current and future climate stress.

- Ans
- 1. livelihoods
  - 2. resileince
  - 3. diversifying
  - 4. appropriate

Question ID : 264330141159  
Option 1 ID : 264330552982  
Option 2 ID : 264330552979  
Option 3 ID : 264330552981  
Option 4 ID : 264330552980  
Status : Answered  
Chosen Option : 2

**Q.4** Select the most appropriate idiom for the given situation.

He started with an online company and became a millionaire. Then, he sold it and invested in the share market and earned more money. Now, he has invested in the transportation industry and is generating huge wealth. What does he have?

- Ans
- 1. Rule of thumb
  - 2. Sticky fingers
  - 3. As genuine as a three-dollar bill
  - 4. Midas touch

Question ID : 26433093038  
Option 1 ID : 264330365408  
Option 2 ID : 264330365405  
Option 3 ID : 264330365406  
Option 4 ID : 264330365407  
Status : Answered  
Chosen Option : 4

**Q.5** The following sentence has been divided into parts. One of them may contain an error. Select the part that contains the error from the given options. If you don't find any error, mark 'No error' as your answer.

There was no other book / in the English language / which is as interesting as this one.

- Ans
- 1. No error
  - 2. which is as interesting as this one
  - 3. There was no other book
  - 4. in the English language

Question ID : 264330120599  
Option 1 ID : 264330472638  
Option 2 ID : 264330472637  
Option 3 ID : 264330472635  
Option 4 ID : 264330472636  
Status : Answered  
Chosen Option : 4

**Q.6 Select the most appropriate ANTONYM of the given word.**

**Bombastic**

- Ans  1. Rhythmic  
 2. Plain  
 3. Sarcastic  
 4. Essential

Question ID : 264330163399  
Option 1 ID : 264330640878  
Option 2 ID : 264330640875  
Option 3 ID : 264330640876  
Option 4 ID : 264330640877  
Status : Answered  
Chosen Option : 1

**Q.7 Select the most appropriate synonym of the given word.**

**Aggravate**

- Ans  1. Enhance  
 2. Satisfy  
 3. Annoy  
 4. Mitigate

Question ID : 264330163332  
Option 1 ID : 264330640629  
Option 2 ID : 264330640627  
Option 3 ID : 264330640630  
Option 4 ID : 264330640628  
Status : Answered  
Chosen Option : 1

**Q.8 Select the most appropriate meaning of the given idiom.**

**Part and parcel**

- Ans  1. A payment system for parcels  
 2. Basic or essential element  
 3. Agreement with someone  
 4. Passing blame to someone else

Question ID : 26433091884  
Option 1 ID : 264330360873  
Option 2 ID : 264330360876  
Option 3 ID : 264330360875  
Option 4 ID : 264330360874  
Status : Answered  
Chosen Option : 2

**Q.9** Identify from the given options the word most similar in meaning to the underlined word according to its meaning in the following sentence.  
He is a person who holds old fashioned opinions.

- Ans
- 1. senior citizen
  - 2. ancient
  - 3. antique
  - 4. obsolete

Question ID : 264330101442  
Option 1 ID : 264330398280  
Option 2 ID : 264330398277  
Option 3 ID : 264330398278  
Option 4 ID : 264330398279  
Status : Answered  
Chosen Option : 4

**Q.10** Select the option that can be used as a one-word substitute for the given group of words.

To have a strong emotional effect on.

- Ans
- 1. To smother
  - 2. To yield
  - 3. To forfeit
  - 4. To overwhelm

Question ID : 26433088971  
Option 1 ID : 264330349421  
Option 2 ID : 264330349422  
Option 3 ID : 264330349424  
Option 4 ID : 264330349423  
Status : Answered  
Chosen Option : 4

**Q.11** Parts of the following sentence have been given as options. One of them may contain an error. Select the part that contains the error from the given options. If you don't find any error, mark 'No error' as your answer.  
Anant was telling a story about his most recent exploits when a tree branch break the living room window.

- Ans
- 1. Anant was telling a story
  - 2. No error
  - 3. when a tree branch break the living room window
  - 4. about his most recent exploits

Question ID : 26433092136  
Option 1 ID : 264330361857  
Option 2 ID : 264330361860  
Option 3 ID : 264330361859  
Option 4 ID : 264330361858  
Status : Answered  
Chosen Option : 3

**Q.12** Select the most appropriate meaning of the underlined idiom.  
The office management was in dire straits after the financial crash.

- Ans
- 1. Being direct or fair
  - 2. To walk on already trodden paths
  - 3. To be extremely happy
  - 4. In a very bad situation

Question ID : 264330120620  
Option 1 ID : 264330472720  
Option 2 ID : 264330472722  
Option 3 ID : 264330472721  
Option 4 ID : 264330472719  
Status : Answered  
Chosen Option : 4

**Q.13** Select the most appropriate idiom to fill in the blank.

There are others waiting to grab an opportunity; if you don't act fast, you are going to \_\_\_\_\_.

- Ans
- 1. miss the boat
  - 2. a full boat
  - 3. push the boat out
  - 4. be in the same boat

Question ID : 264330163335  
Option 1 ID : 264330640641  
Option 2 ID : 264330640642  
Option 3 ID : 264330640640  
Option 4 ID : 264330640639  
Status : Answered  
Chosen Option : 1

**Q.14** Select the option that can be used as a one-word substitute for the given group of words.  
A disease prevalent in a community or a specific region at a specific time, affecting a large area.

- Ans
- 1. Endemic
  - 2. Epidemic
  - 3. Pandemic
  - 4. Eradicate

Question ID : 26433088805  
Option 1 ID : 264330348773  
Option 2 ID : 264330348775  
Option 3 ID : 264330348774  
Option 4 ID : 264330348776  
Status : Answered  
Chosen Option : 3



Q.15 Select the most appropriate ANTONYM of the given word.

Apex

- Ans
- 1. Farthest
  - 2. Watchful
  - 3. Bottom
  - 4. Pinnacle

Question ID : 264330163397  
Option 1 ID : 264330640868  
Option 2 ID : 264330640870  
Option 3 ID : 264330640869  
Option 4 ID : 264330640867  
Status : Answered  
Chosen Option : 3

Q.16 Select the most appropriate ANTONYM of the given word.

Transparent

- Ans
- 1. Linger
  - 2. Crossover
  - 3. Opaque
  - 4. Oppress

Question ID : 264330164277  
Option 1 ID : 264330644332  
Option 2 ID : 264330644333  
Option 3 ID : 264330644334  
Option 4 ID : 264330644331  
Status : Answered  
Chosen Option : 3

Q.17 The following sentence has been split into four segments. Identify the segment that contains a grammatical error.

The university has putting off / the semester examination / for the second time now / due to technical issues.

- Ans
- 1. The university has putting off
  - 2. due to technical issues
  - 3. the semester examination
  - 4. for the second time now

Question ID : 264330145278  
Option 1 ID : 264330569367  
Option 2 ID : 264330569370  
Option 3 ID : 264330569368  
Option 4 ID : 264330569369  
Status : Answered  
Chosen Option : 1

**Q.18** Select the most appropriate idiom to substitute the underlined segment in the given sentence.  
My final round of Spell Bee Competition is coming up and to win this event, I need to study hard from today.

- Ans
- 1. pour my heart out
  - 2. burn the books
  - 3. cut to the chase
  - 4. hit the books

Question ID : 264330135908  
Option 1 ID : 264330532490  
Option 2 ID : 264330532487  
Option 3 ID : 264330532489  
Option 4 ID : 264330532488  
Status : Answered  
Chosen Option : 4

**Q.19** Select the most appropriate option that can substitute the underlined words in the given sentence.

Kiran's teacher was doubtful on her success.

- Ans
- 1. doubtful beyond
  - 2. doubtful off
  - 3. doubtful in
  - 4. doubtful of

Question ID : 26433099936  
Option 1 ID : 264330392319  
Option 2 ID : 264330392320  
Option 3 ID : 264330392318  
Option 4 ID : 264330392317  
Status : Answered  
Chosen Option : 3

**Q.20** Select the correct option to substitute the underlined segment in the given sentence. If no substitution is required, select 'No substitution'.

Her smile is similar to her mother.

- Ans
- 1. her mother's
  - 2. No substitution
  - 3. mother
  - 4. the mother

Question ID : 26433090821  
Option 1 ID : 264330356705  
Option 2 ID : 264330356708  
Option 3 ID : 264330356707  
Option 4 ID : 264330356706  
Status : Answered  
Chosen Option : 1

**Q.21** The following sentence has been split into four segments. Identify the segment that contains a grammatical error.

Mr. Khanna and family / have visit / Manali during / the summer vacation.

- Ans**
- 1. Manali during
  - 2. the summer vacation.
  - 3. Mr. Khanna and family
  - 4. have visit

Question ID : 26433059759

Option 1 ID : 264330233870

Option 2 ID : 264330233871

Option 3 ID : 264330233868

Option 4 ID : 264330233869

Status : Answered

Chosen Option : 4

**Q.22** Select the INCORRECTLY spelt word.

- Ans**
- 1. Agreeable
  - 2. Formulae
  - 3. Ocession
  - 4. Waitress

Question ID : 264330163411

Option 1 ID : 264330640925

Option 2 ID : 264330640926

Option 3 ID : 264330640924

Option 4 ID : 264330640923

Status : Answered

Chosen Option : 4

**Q.23** Select the option that can be used as a one-word substitute for the given group of words.

Very attractive and easy to feel love for

- Ans**
- 1. Adorable
  - 2. Laudable
  - 3. Mysterious
  - 4. Flamboyant

Question ID : 26433088194

Option 1 ID : 264330346371

Option 2 ID : 264330346370

Option 3 ID : 264330346372

Option 4 ID : 264330346369

Status : Answered

Chosen Option : 1

**Q.24** Select the option that can be used as a one-word substitute for the given group of words.

An animal or a person that eats all types of food, especially plants and meat

- Ans  1. Omnivore  
 2. Herbivore  
 3. Vegetarian  
 4. Carnivore

Question ID : 26433088198  
Option 1 ID : 264330346386  
Option 2 ID : 264330346388  
Option 3 ID : 264330346385  
Option 4 ID : 264330346387  
Status : Answered  
Chosen Option : 1

**Q.25** Select the most appropriate option that can substitute the underlined word in the given sentence.

The Board of Film Analysts vituperated the novice Indonesian film-maker and cancelled its nomination for the 'Golden Globe Award'.

- Ans  1. recognised and praised the talent of  
 2. dealt in a delicate and polite manner  
 3. lamented the untimely death of  
 4. censured with harsh and abusive language

Question ID : 26433070504  
Option 1 ID : 264330276492  
Option 2 ID : 264330276495  
Option 3 ID : 264330276493  
Option 4 ID : 264330276494  
Status : Answered  
Chosen Option : 1

**Q.26** Select the most appropriate synonym of the given word.

Robe

- Ans  1. Mishap  
 2. Success  
 3. Cloak  
 4. Robbery

Question ID : 264330163358  
Option 1 ID : 264330640725  
Option 2 ID : 264330640726  
Option 3 ID : 264330640724  
Option 4 ID : 264330640723  
Status : Answered  
Chosen Option : 4

**Q.27** Select the INCORRECTLY spelt word.

- Ans  1. Nasal  
 2. Councel  
 3. Embezzlement  
 4. Puzzled

Question ID : 26433089104  
Option 1 ID : 264330349935  
Option 2 ID : 264330349936  
Option 3 ID : 264330349933  
Option 4 ID : 264330349934  
Status : Answered  
Chosen Option : 2

**Q.28** Select the option that can be used as a one-word substitute for the given group of words.

Lasting for a very short time

- Ans  1. Eternal  
 2. Blasphemy  
 3. Chronology  
 4. Ephemeral

Question ID : 26433091809  
Option 1 ID : 264330360575  
Option 2 ID : 264330360573  
Option 3 ID : 264330360574  
Option 4 ID : 264330360576  
Status : Answered  
Chosen Option : 4

**Q.29** Select the most appropriate meaning of the given idiom.  
A snowball effect

- Ans  1. Slow movement  
 2. Trick someone completely  
 3. Cold and uncomfortable  
 4. An accelerating growth of magnitude

Question ID : 264330117376  
Option 1 ID : 264330461546  
Option 2 ID : 264330461547  
Option 3 ID : 264330461545  
Option 4 ID : 264330461548  
Status : Answered  
Chosen Option : 1

**Q.30** Select the correct spelling for the INCORRECTLY spelt word in the given sentence.

The Eustachian tube and vestibular complex in the middle and inner ear, respectively, have an important role to play.

- Ans
- 1. vestibular
  - 2. respictevely
  - 3. importent
  - 4. midle

Question ID : 26433090499  
Option 1 ID : 264330355445  
Option 2 ID : 264330355447  
Option 3 ID : 264330355448  
Option 4 ID : 264330355446  
Status : Answered  
Chosen Option : 1

**Q.31** Some words in the following sentence have been underlined and given as options.

Select the option that contains a spelling error.  
Roshni does a fabulouous job at her company, and has been offered a promotion.

- Ans
- 1. fabulouous
  - 2. company
  - 3. offered
  - 4. promotion

Question ID : 264330121268  
Option 1 ID : 264330475275  
Option 2 ID : 264330475276  
Option 3 ID : 264330475277  
Option 4 ID : 264330475278  
Status : Answered  
Chosen Option : 1

**Q.32** Select the most appropriate option that can substitute the underlined segment in the given sentence. If there is no need to substitute it, select 'No substitution required'.  
Harry is the one sitting on the corner.

- Ans
- 1. No substitution required
  - 2. onto
  - 3. upon
  - 4. in

Question ID : 26433070769  
Option 1 ID : 264330277535  
Option 2 ID : 264330277534  
Option 3 ID : 264330277533  
Option 4 ID : 264330277532  
Status : Answered  
Chosen Option : 4

Q.33 Select the most appropriate ANTONYM of the given word.

Inquisitive

- Ans  1. Uninterested  
 2. Indolent  
 3. Careful  
 4. Dull

Question ID : 264330120606  
Option 1 ID : 264330472663  
Option 2 ID : 264330472665  
Option 3 ID : 264330472666  
Option 4 ID : 264330472664  
Status : Answered  
Chosen Option : 1

Q.34 Choose the idiom that can best substitute the underlined part of the given sentence.

Shelley ignored her father's wish of studying arts and instead took admission in commerce.

- Ans  1. Bid defiance to  
 2. Big fish  
 3. Blew over  
 4. Beyond the pale

Question ID : 26433094748  
Option 1 ID : 264330371828  
Option 2 ID : 264330371825  
Option 3 ID : 264330371827  
Option 4 ID : 264330371826  
Status : Answered  
Chosen Option : 4

Q.35 The following sentence has been split into four segments. Identify the segment that contains a grammatical error.

I have never / come to / such a kind person / like my friend.

- Ans  1. come to  
 2. such a kind person  
 3. like my friend  
 4. I have never

Question ID : 26433070491  
Option 1 ID : 264330276441  
Option 2 ID : 264330276442  
Option 3 ID : 264330276443  
Option 4 ID : 264330276440  
Status : Answered  
Chosen Option : 4

Q.36 Select the option that can be used as a one-word substitute for the underlined words.

He was not willing to attend the technical session of the conference.

- Ans
- 1. curious
  - 2. comprehensive
  - 3. dejecting
  - 4. reluctant

Question ID : 26433099922  
Option 1 ID : 264330392272  
Option 2 ID : 264330392271  
Option 3 ID : 264330392269  
Option 4 ID : 264330392270  
Status : Answered  
Chosen Option : 4

Q.37 Select the most appropriate meaning of the underlined word.  
Ram was abandoned by his parents at a very early age.

- Ans
- 1. Disgraced
  - 2. Hated
  - 3. Loved
  - 4. Left

Question ID : 264330121035  
Option 1 ID : 264330474350  
Option 2 ID : 264330474348  
Option 3 ID : 264330474349  
Option 4 ID : 264330474347  
Status : Answered  
Chosen Option : 4

Q.38 Select the most appropriate idiom that can substitute the underlined segment in the given sentence.  
Do you believe that you have a possibility of getting that job?

- Ans
- 1. snow job
  - 2. spill the beans
  - 3. shoot the breeze
  - 4. stand a chance

Question ID : 264330117475  
Option 1 ID : 264330461932  
Option 2 ID : 264330461931  
Option 3 ID : 264330461929  
Option 4 ID : 264330461930  
Status : Answered  
Chosen Option : 4



**Q.39** Select the most appropriate meaning of the given idiom.

**Get your act together**

- Ans**  1. To organise yourself so that you can do something properly  
 2. To understand something complicated  
 3. To get the conversation going  
 4. To ruin one's plans

Question ID : 264330163401  
Option 1 ID : 264330640885  
Option 2 ID : 264330640884  
Option 3 ID : 264330640886  
Option 4 ID : 264330640883  
Status : Answered  
Chosen Option : 1

**Q.40** Select the most appropriate meaning of the underlined word.  
He uses one of the finest ingredients in his cooking.

- Ans**  1. Preparations  
 2. Components  
 3. Culinary  
 4. Mixtures

Question ID : 264330121040  
Option 1 ID : 264330474369  
Option 2 ID : 264330474367  
Option 3 ID : 264330474370  
Option 4 ID : 264330474368  
Status : Answered  
Chosen Option : 2

**Comprehension:**

In the following passage some words have been deleted. Read the passage carefully and select the most appropriate option to fill in each blank.

Among the largest species of cats in the world, tigers are powerful hunters with (1) \_\_\_\_\_ teeth, strong jaws and agile bodies. They range across Asia from Russia all the way to Sumatra and mainland Southeast Asia. Researchers still have much to learn (2) \_\_\_\_\_ these beautiful, endangered (3) \_\_\_\_\_.

There is currently one recognized species of tiger, *Panthera tigris*. Scientists have further (4) \_\_\_\_\_ the tiger into nine subspecies: the extinct Bali, Caspian and Javan subspecies, and the living Malayan, Sumatran, South China, Indochinese, Bengal and Amur (or Siberian) subspecies. Of these six subspecies, AZA-accredited zoos currently manage three: Amur, Malayan, and Sumatran. The Smithsonian's National Zoo and Conservation Biology Institute is home to Sumatran and Amur tigers; Sumatran tigers are (5) \_\_\_\_\_ as Critically Endangered on the International Union for Conservation of Nature's Red List, and Amur tigers have been classified as Endangered.

**SubQuestion No : 41**

**Q.41** Select the most appropriate option to fill blank number 1.

- Ans**  1. Long  
 2. Small  
 3. Blunt  
 4. Sharp

Question ID : 264330163389  
Option 1 ID : 264330640837  
Option 2 ID : 264330640835  
Option 3 ID : 264330640836  
Option 4 ID : 264330640838  
Status : Answered  
Chosen Option : 4

**Comprehension:**

In the following passage some words have been deleted. Read the passage carefully and select the most appropriate option to fill in each blank.

Among the largest species of cats in the world, tigers are powerful hunters with (1) \_\_\_\_\_ teeth, strong jaws and agile bodies. They range across Asia from Russia all the way to Sumatra and mainland Southeast Asia. Researchers still have much to learn (2) \_\_\_\_\_ these beautiful, endangered (3) \_\_\_\_\_. There is currently one recognized species of tiger, *Panthera tigris*. Scientists have further (4) \_\_\_\_\_ the tiger into nine subspecies: the extinct Bali, Caspian and Javan subspecies, and the living Malayan, Sumatran, South China, Indochinese, Bengal and Amur (or Siberian) subspecies. Of these six subspecies, AZA-accredited zoos currently manage three: Amur, Malayan, and Sumatran. The Smithsonian's National Zoo and Conservation Biology Institute is home to Sumatran and Amur tigers; Sumatran tigers are (5) \_\_\_\_\_ as Critically Endangered on the International Union for Conservation of Nature's Red List, and Amur tigers have been classified as Endangered.

**SubQuestion No : 42**

**Q.42** Select the most appropriate option to fill blank number 2.

- Ans
- 1. With
  - 2. Along
  - 3. Into
  - 4. About

Question ID : 264330163390  
Option 1 ID : 264330640839  
Option 2 ID : 264330640840  
Option 3 ID : 264330640842  
Option 4 ID : 264330640841  
Status : Answered  
Chosen Option : 4

**Comprehension:**

In the following passage some words have been deleted. Read the passage carefully and select the most appropriate option to fill in each blank.

Among the largest species of cats in the world, tigers are powerful hunters with (1) \_\_\_\_\_ teeth, strong jaws and agile bodies. They range across Asia from Russia all the way to Sumatra and mainland Southeast Asia. Researchers still have much to learn (2) \_\_\_\_\_ these beautiful, endangered (3) \_\_\_\_\_. There is currently one recognized species of tiger, *Panthera tigris*. Scientists have further (4) \_\_\_\_\_ the tiger into nine subspecies: the extinct Bali, Caspian and Javan subspecies, and the living Malayan, Sumatran, South China, Indochinese, Bengal and Amur (or Siberian) subspecies. Of these six subspecies, AZA-accredited zoos currently manage three: Amur, Malayan, and Sumatran. The Smithsonian's National Zoo and Conservation Biology Institute is home to Sumatran and Amur tigers; Sumatran tigers are (5) \_\_\_\_\_ as Critically Endangered on the International Union for Conservation of Nature's Red List, and Amur tigers have been classified as Endangered.

**SubQuestion No : 43**

**Q.43** Select the most appropriate option to fill blank number 3.

- Ans
- 1. Cats
  - 2. Dogs
  - 3. Rabbits
  - 4. Elephants

Question ID : 264330163391  
Option 1 ID : 264330640843  
Option 2 ID : 264330640844  
Option 3 ID : 264330640845  
Option 4 ID : 264330640846  
Status : Answered  
Chosen Option : 1

**Comprehension:**

In the following passage some words have been deleted. Read the passage carefully and select the most appropriate option to fill in each blank.

Among the largest species of cats in the world, tigers are powerful hunters with (1) \_\_\_\_\_ teeth, strong jaws and agile bodies. They range across Asia from Russia all the way to Sumatra and mainland Southeast Asia. Researchers still have much to learn (2) \_\_\_\_\_ these beautiful, endangered (3) \_\_\_\_\_. There is currently one recognized species of tiger, *Panthera tigris*. Scientists have further (4) \_\_\_\_\_ the tiger into nine subspecies: the extinct Bali, Caspian and Javan subspecies, and the living Malayan, Sumatran, South China, Indochinese, Bengal and Amur (or Siberian) subspecies. Of these six subspecies, AZA-accredited zoos currently manage three: Amur, Malayan, and Sumatran. The Smithsonian's National Zoo and Conservation Biology Institute is home to Sumatran and Amur tigers; Sumatran tigers are (5) \_\_\_\_\_ as Critically Endangered on the International Union for Conservation of Nature's Red List, and Amur tigers have been classified as Endangered.

**SubQuestion No : 44**

**Q.44** Select the most appropriate option to fill blank number 4.

- Ans  1. Classified  
 2. Restricted  
 3. Declared  
 4. Generalized

Question ID : 264330163392  
Option 1 ID : 264330640847  
Option 2 ID : 264330640848  
Option 3 ID : 264330640849  
Option 4 ID : 264330640850  
Status : Answered  
Chosen Option : 1

**Comprehension:**

In the following passage some words have been deleted. Read the passage carefully and select the most appropriate option to fill in each blank.

Among the largest species of cats in the world, tigers are powerful hunters with (1) \_\_\_\_\_ teeth, strong jaws and agile bodies. They range across Asia from Russia all the way to Sumatra and mainland Southeast Asia. Researchers still have much to learn (2) \_\_\_\_\_ these beautiful, endangered (3) \_\_\_\_\_. There is currently one recognized species of tiger, *Panthera tigris*. Scientists have further (4) \_\_\_\_\_ the tiger into nine subspecies: the extinct Bali, Caspian and Javan subspecies, and the living Malayan, Sumatran, South China, Indochinese, Bengal and Amur (or Siberian) subspecies. Of these six subspecies, AZA-accredited zoos currently manage three: Amur, Malayan, and Sumatran. The Smithsonian's National Zoo and Conservation Biology Institute is home to Sumatran and Amur tigers; Sumatran tigers are (5) \_\_\_\_\_ as Critically Endangered on the International Union for Conservation of Nature's Red List, and Amur tigers have been classified as Endangered.

**SubQuestion No : 45**

**Q.45** Select the most appropriate option to fill blank number 5.

- Ans  1. Detailed  
 2. Numerated  
 3. Listed  
 4. Recorded

Question ID : 264330163393  
Option 1 ID : 264330640853  
Option 2 ID : 264330640854  
Option 3 ID : 264330640852  
Option 4 ID : 264330640851  
Status : Answered  
Chosen Option : 4

**Comprehension:**

Read the given passage and answer the questions that follow.

What if globally designed products could radically change how we work, produce and consume? Several examples across continents show the way we are producing and consuming goods could be improved by relying on globally shared digital resources, such as design, knowledge and software.

Imagine a prosthetic hand designed by geographically dispersed communities of scientists, designers and enthusiasts in a collaborative manner via the web. All knowledge and software related to the hand is shared globally as a digital commons.

People from all over the world who are connected online and have access to local manufacturing machines (from 3D printing and CNC machines to low-tech crafts and tools) can, ideally with the help of an expert, manufacture a customised hand. This is the case of the Open Bionics project, which produces designs for robotic and bionic devices.

There are no patent costs to pay for. Less transportation of materials is needed, since a considerable part of the manufacturing takes place locally; maintenance is easier, products are designed to last as long as possible, and costs are thus much lower.

**SubQuestion No : 46**

**Q.46** Which of the following is NOT a globally shared digital resource?

Ans  1. Automobile

2. Design

3. Knowledge

4. Software

Question ID : 264330136478

Option 1 ID : 264330534661

Option 2 ID : 264330534660

Option 3 ID : 264330534659

Option 4 ID : 264330534662

Status : Answered

Chosen Option : 1

**Comprehension:**

Read the given passage and answer the questions that follow.

What if globally designed products could radically change how we work, produce and consume? Several examples across continents show the way we are producing and consuming goods could be improved by relying on globally shared digital resources, such as design, knowledge and software.

Imagine a prosthetic hand designed by geographically dispersed communities of scientists, designers and enthusiasts in a collaborative manner via the web. All knowledge and software related to the hand is shared globally as a digital commons.

People from all over the world who are connected online and have access to local manufacturing machines (from 3D printing and CNC machines to low-tech crafts and tools) can, ideally with the help of an expert, manufacture a customised hand. This is the case of the Open Bionics project, which produces designs for robotic and bionic devices.

There are no patent costs to pay for. Less transportation of materials is needed, since a considerable part of the manufacturing takes place locally; maintenance is easier, products are designed to last as long as possible, and costs are thus much lower.

**SubQuestion No : 47**

**Q.47** Select the most suitable word from the passage which means 'scattered'.

Ans  1. Shared

2. Collaborative

3. Customised

4. Dispersed

Question ID : 264330136480

Option 1 ID : 264330534667

Option 2 ID : 264330534669

Option 3 ID : 264330534670

Option 4 ID : 264330534668

Status : Answered

Chosen Option : 2

**Comprehension:**

Read the given passage and answer the questions that follow.

What if globally designed products could radically change how we work, produce and consume? Several examples across continents show the way we are producing and consuming goods could be improved by relying on globally shared digital resources, such as design, knowledge and software.

Imagine a prosthetic hand designed by geographically dispersed communities of scientists, designers and enthusiasts in a collaborative manner via the web. All knowledge and software related to the hand is shared globally as a digital commons.

People from all over the world who are connected online and have access to local manufacturing machines (from 3D printing and CNC machines to low-tech crafts and tools) can, ideally with the help of an expert, manufacture a customised hand. This is the case of the Open Bionics project, which produces designs for robotic and bionic devices.

There are no patent costs to pay for. Less transportation of materials is needed, since a considerable part of the manufacturing takes place locally; maintenance is easier, products are designed to last as long as possible, and costs are thus much lower.

**SubQuestion No : 48****Q.48 What is the tone of the author?****Ans** ✓ 1. Speculative

✗ 2. Caustic

✗ 3. Acerbic

✗ 4. Belligerent

Question ID : 264330136481

Option 1 ID : 264330534674

Option 2 ID : 264330534673

Option 3 ID : 264330534671

Option 4 ID : 264330534672

Status : Answered

Chosen Option : 1

**Comprehension:**

Read the given passage and answer the questions that follow.

What if globally designed products could radically change how we work, produce and consume? Several examples across continents show the way we are producing and consuming goods could be improved by relying on globally shared digital resources, such as design, knowledge and software.

Imagine a prosthetic hand designed by geographically dispersed communities of scientists, designers and enthusiasts in a collaborative manner via the web. All knowledge and software related to the hand is shared globally as a digital commons.

People from all over the world who are connected online and have access to local manufacturing machines (from 3D printing and CNC machines to low-tech crafts and tools) can, ideally with the help of an expert, manufacture a customised hand. This is the case of the Open Bionics project, which produces designs for robotic and bionic devices.

There are no patent costs to pay for. Less transportation of materials is needed, since a considerable part of the manufacturing takes place locally; maintenance is easier, products are designed to last as long as possible, and costs are thus much lower.

**SubQuestion No : 49****Q.49 What is the term used in the passage for globally shared digital things?****Ans** ✗ 1. Digital information

✗ 2. Digital world

✓ 3. Digital commons

✗ 4. Digital resources

Question ID : 264330136479

Option 1 ID : 264330534664

Option 2 ID : 264330534665

Option 3 ID : 264330534666

Option 4 ID : 264330534663

Status : Answered

Chosen Option : 4

**Comprehension:**

Read the given passage and answer the questions that follow.

What if globally designed products could radically change how we work, produce and consume? Several examples across continents show the way we are producing and consuming goods could be improved by relying on globally shared digital resources, such as design, knowledge and software.

Imagine a prosthetic hand designed by geographically dispersed communities of scientists, designers and enthusiasts in a collaborative manner via the web. All knowledge and software related to the hand is shared globally as a digital commons.

People from all over the world who are connected online and have access to local manufacturing machines (from 3D printing and CNC machines to low-tech crafts and tools) can, ideally with the help of an expert, manufacture a customised hand. This is the case of the Open Bionics project, which produces designs for robotic and bionic devices.

There are no patent costs to pay for. Less transportation of materials is needed, since a considerable part of the manufacturing takes place locally; maintenance is easier, products are designed to last as long as possible, and costs are thus much lower.

**SubQuestion No : 50**

**Q.50 Identify the most suitable title for the given passage.**

- Ans**
- 1. Knowledge Explosion
  - 2. Shared Information
  - 3. Customised Hand
  - 4. Digital Globalisation

Question ID : 264330136482

Option 1 ID : 264330534678

Option 2 ID : 264330534675

Option 3 ID : 264330534676

Option 4 ID : 264330534677

Status : Answered

Chosen Option : 3

KD JOB UPDATES

## Sub Inspector in Delhi Police and Central Armed Police Forces Examination 2023 Paper I

Roll Number	KD JOB UPDATES
Candidate Name	KD JOB UPDATES
Venue Name	ANAND INTERNATIONAL COLLEGE OF ENGINEERING JAIPUR
Exam Date	05/10/2023
Exam Time	4:00 PM - 6:00 PM
Subject	SICPO Paper I 2023

### Section : General Intelligence and Reasoning

Q.1 उस विकल्प का चयन करें, जो तीसरे शब्द से उसी प्रकार संबंधित है, जिस प्रकार दूसरा शब्द पहले शब्द से संबंधित है। (शब्दों को अर्थपूर्ण शब्दों के रूप में माना जाना चाहिए, और इन्हें शब्द में अक्षरों की संख्या/व्यंजनों की संख्या/स्वरों की संख्या के आधार पर एक-दूसरे से संबद्ध नहीं किया जाना चाहिए।)  
दाब (Pressure) : बैरोमीटर (Barometer) :: विद्युत (Electricity) : ?

- Ans
- 1. मल्टीमीटर (Multimeter)
  - 2. बोलोमीटर (Bolometer)
  - 3. साइक्लोट्रॉन (Cyclotron)
  - 4. ऑडियोमीटर (Audiometer)

Question ID : 26433087296

Option 1 ID : 264330342824

Option 2 ID : 264330342823

Option 3 ID : 264330342821

Option 4 ID : 264330342822

Status : Marked For Review

Chosen Option : 1

Q.2 एक निश्चित कूट भाषा में "PIN" को 9 के रूप में कूटबद्ध किया जाता है, और "CHARGER" को 49 के रूप में कूटबद्ध किया जाता है। उसी कूट भाषा में "CABLE" को किस प्रकार कूटबद्ध किया जाएगा?

- Ans
- 1. 36
  - 2. 18
  - 3. 27
  - 4. 25

Question ID : 264330132204

Option 1 ID : 264330517914

Option 2 ID : 264330517913

Option 3 ID : 264330517912

Option 4 ID : 264330517911

Status : Answered

Chosen Option : 4

Q.3 Q, S के पूर्व में है। E, S के दक्षिण में है। P, Q के उत्तर-पूर्व में, और T के उत्तर में है। यदि T, Q के दक्षिण-पूर्व में है, तो T के सापेक्ष S की स्थिति क्या है? (सभी स्थितियों को ग्रिड पैटर्न में व्यवस्थित किया गया है)

- Ans  1. उत्तर-पश्चिम  
 2. दक्षिण-पश्चिम  
 3. दक्षिण-पूर्व  
 4. पश्चिम

Question ID : 26433089523

Option 1 ID : 264330351593

Option 2 ID : 264330351595

Option 3 ID : 264330351596

Option 4 ID : 264330351594

Status : Marked For Review

Chosen Option : 3

Q.4 एक निश्चित कूट भाषा में "MOBILE" को "NQEMQK" लिखा जाता है, और "BISHOP" को "CKVLTV" लिखा जाता है। उसी कूट भाषा में "CHARGE" को किस प्रकार लिखा जाएगा?

- Ans  1. DJDVLK  
 2. DJDWLK  
 3. DJEVLJ  
 4. DJDVKL

Question ID : 26433070269

Option 1 ID : 264330275554

Option 2 ID : 264330275555

Option 3 ID : 264330275553

Option 4 ID : 264330275552

Status : Answered

Chosen Option : 1

Q.5 स्टैनली स्थान A से साइकिल चलाना शुरू करता है। वह पश्चिम की ओर X km साइकिल चलाता है, और फिर दाएं मुड़ता है, और 3 km साइकिल चलाता है। वह फिर से दाएं मुड़ता है, और X+1 km साइकिल चलाता है। वह फिर से दाएं मुड़ता है, और 2X+1 km साइकिल चलाता है। वह अंतिम बार दाएं मुड़ता है, और 1 km साइकिल चलाकर स्थान B पर रुकता है। स्थान B, स्थान A से 6 km दक्षिण में है। X का मान क्या है?

- Ans  1. 9  
 2. 3  
 3. 5  
 4. 4

Question ID : 26433097236

Option 1 ID : 264330381644

Option 2 ID : 264330381641

Option 3 ID : 264330381642

Option 4 ID : 264330381643

Status : Not Answered

Chosen Option : --



Q.6 उस विकल्प का चयन कीजिए, जो दिए गए शब्दों के उस सही क्रम को दर्शाता है, जिस क्रम में वे अंग्रेजी शब्दकोश में मौजूद होते हैं।

1. Brochure
2. Brine
3. Bright
4. Brief
5. Brocade

Ans  1. 1, 2, 3, 4, 5  
 2. 3, 2, 5, 4, 1  
 3. 1, 2, 3, 5, 4  
 4. 4, 3, 2, 5, 1

Question ID : 26433067247  
Option 1 ID : 264330263500  
Option 2 ID : 264330263501  
Option 3 ID : 264330263502  
Option 4 ID : 264330263503  
Status : Answered  
Chosen Option : 4

Q.7 दिए गए समीकरण को सही बनाने के लिए किन दो गणितीय चिह्न को आपस में बदला जाना चाहिए?

$$(45 \times 2) \div 15 - (6 \times 3) + 10 - (63 \div 21) = 17$$

Ans  1. ÷ और ×  
 2. - और +  
 3. × और -  
 4. ÷ और +

Question ID : 264330145313  
Option 1 ID : 264330569508  
Option 2 ID : 264330569510  
Option 3 ID : 264330569509  
Option 4 ID : 264330569507  
Status : Answered  
Chosen Option : 2

Q.8 यदि A का अर्थ '+' हो, B का अर्थ '×' हो, C का अर्थ '-' हो और D का अर्थ '÷' हो, तो निम्नलिखित समीकरण का मान कितना होगा?  
11 B 12 C 144 D 24 A 57 = ?

Ans  1. 180  
 2. 183  
 3. 160  
 4. 186

Question ID : 264330129780  
Option 1 ID : 264330508351  
Option 2 ID : 264330508352  
Option 3 ID : 264330508353  
Option 4 ID : 264330508354  
Status : Answered  
Chosen Option : 2

Q.9 चार अक्षर-समूह दिये गए हैं जिनमें से तीन किसी प्रकार से आपस में संबंधित हैं जबकि कोई एक उनसे असंगत है। असंगत अक्षर-समूह का चयन कीजिए।

- Ans
- 1. SRWX
  - 2. POTU
  - 3. DBGH
  - 4. HGLM

Question ID : 264330180751

Option 1 ID : 264330708974

Option 2 ID : 264330708973

Option 3 ID : 264330708971

Option 4 ID : 264330708972

Status : Marked For Review

Chosen Option : 3

Q.10 उस विकल्प का चयन कीजिए जिसमें दी गई आकृति सन्निहित है (घुमाने की अनुमति नहीं है)।



Ans

- 1.
- 2.
- 3.
- 4.

Question ID : 264330126080

Option 1 ID : 264330493994

Option 2 ID : 264330493992

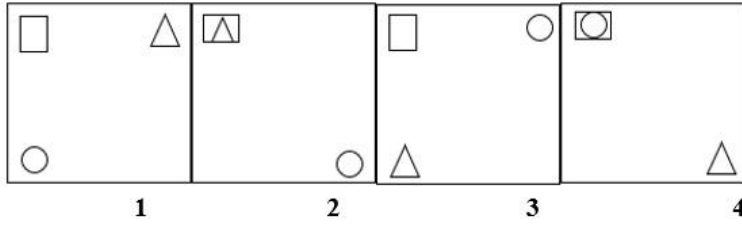
Option 3 ID : 264330493993

Option 4 ID : 264330493995

Status : Answered

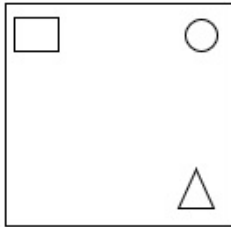
Chosen Option : 3

Q.11 निम्नलिखित में से कौन-सी आकृति दी गई श्रृंखला में 5वें स्थान पर रखे जाने पर पहली चार आकृतियों द्वारा निर्मित श्रृंखला को जारी रखेगी?

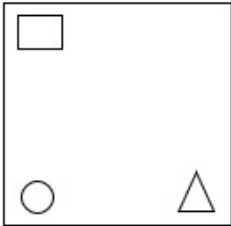


Ans

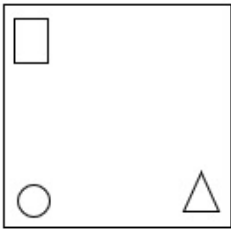
✗ 1.



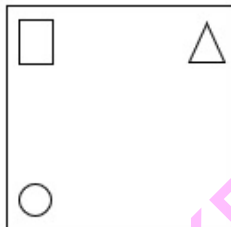
✗ 2.



✗ 3.



✓ 4.



KD JOB UPDATES

Question ID : 26433087304

Option 1 ID : 264330342855

Option 2 ID : 264330342853

Option 3 ID : 264330342854

Option 4 ID : 264330342856

Status : Answered

Chosen Option : 4

Q.12 उस विकल्प का चयन कीजिए, जो तीसरे शब्द से उसी प्रकार संबंधित है, जिस प्रकार दूसरा शब्द पहले शब्द से संबंधित है। (शब्दों को अर्थपूर्ण शब्दों के रूप में माना जाना चाहिए, और वह शब्द में अक्षरों की संख्या/व्यंजनों/स्वरों की संख्या के आधार पर एक-दूसरे से संबंधित नहीं होना चाहिए।)

केंद्र (Centre) : केंद्रबिंदु (Focus) :: मुहल्ले का पादरी (Vicar) : ?

- Ans
- 1. इमारत (Building)
  - 2. धर्मचार्य (Priest)
  - 3. पहेली (Riddle)
  - 4. जीवन (Life)

Question ID : 264330145397

Option 1 ID : 264330569844

Option 2 ID : 264330569845

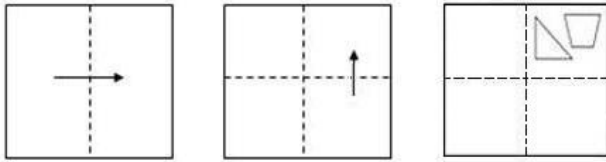
Option 3 ID : 264330569843

Option 4 ID : 264330569846

Status : Answered

Chosen Option : 2

Q.13 एक कागज को नीचे दिखाए गए अनुसार मोड़ा और काटा जाता है। खोले जाने पर यह कैसा दिखाई देगा?



Ans

- 1.
- 2.
- 3.
- 4.

Question ID : 26433091688

Option 1 ID : 264330360118

Option 2 ID : 264330360119

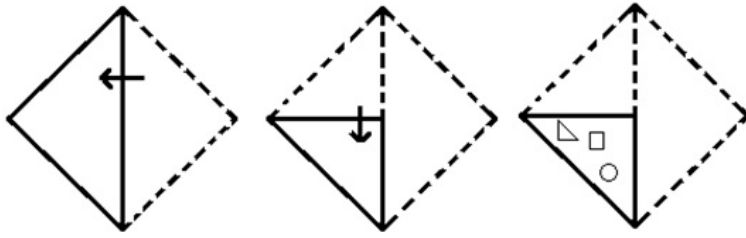
Option 3 ID : 264330360117

Option 4 ID : 264330360120

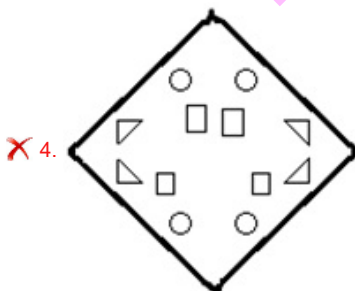
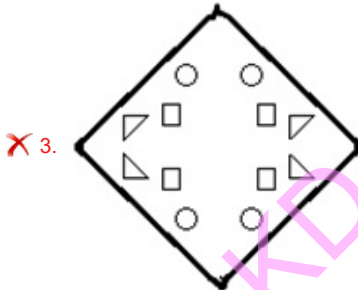
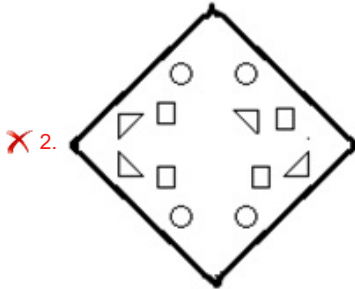
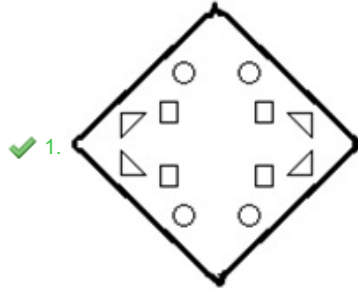
Status : Answered

Chosen Option : 1

Q.14 निम्नलिखित आकृतियों में कागज के एक टुकड़े को मोड़ने का क्रम और मुड़े हुए कागज को काटने का तरीका दर्शाया गया है। कागज की तह खुलने पर यह कैसा दिखाई देगा?



Ans



Question ID : 26433074791

Option 1 ID : 264330293253

Option 2 ID : 264330293255

Option 3 ID : 264330293254

Option 4 ID : 264330293252

Status : Answered

Chosen Option : 1

Q.15 "T + U" का अर्थ है कि "T, U की माता है"।  
"T - U" का अर्थ है कि "T, U का पिता है"।  
"T \$ U" का अर्थ है कि "T, U का पति है"।  
"T # U" का अर्थ है कि "T, U की पुत्री है"।  
यदि A # C \$ V + X है, तो A का X से क्या संबंध है?

- Ans
- 1. भाई
  - 2. पिता
  - 3. पुत्री
  - 4. बहन

Question ID : 264330145387

Option 1 ID : 264330569803

Option 2 ID : 264330569806

Option 3 ID : 264330569805

Option 4 ID : 264330569804

Status : Marked For Review

Chosen Option : 4

Q.16 दिए गए समीकरण को सही बनाने के लिए किन दो चिह्नों को आपस में बदला जाना चाहिए?  
 $42 \div 7 + 11 \times 87 - 12 = 141$

- Ans
- 1. - और ×
  - 2. ÷ और -
  - 3. ÷ और +
  - 4. × और +

Question ID : 264330129526

Option 1 ID : 264330507473

Option 2 ID : 264330507470

Option 3 ID : 264330507471

Option 4 ID : 264330507472

Status : Answered

Chosen Option : 4

Q.17 सात व्यक्ति A, B, C, D, E, F और G उत्तर की ओर मुख करके एक सीधी पंक्ति में बैठे हैं। D के दाईं ओर केवल 2 व्यक्ति बैठे हैं। G, D के ठीक बगल में बैठा है। A और G के बीच में केवल 3 व्यक्ति बैठे हैं। B और C के बीच में केवल 2 व्यक्ति बैठे हैं। E, C के ठीक बगल में नहीं है। F, G के दाईं ओर ठीक बगल में बैठा है।  
A के बाईं ओर ठीक बगल में कौन बैठा हुआ है?

- Ans
- 1. B
  - 2. C
  - 3. E
  - 4. D

Question ID : 264330145410

Option 1 ID : 264330569895

Option 2 ID : 264330569896

Option 3 ID : 264330569897

Option 4 ID : 264330569898

Status : Answered

Chosen Option : 2

Q.18 यदि M का अर्थ '+' है, N का अर्थ '-' है, O का अर्थ '×' है, और P का अर्थ '÷' है तो निम्नलिखित समीकरण में '?' के स्थान पर क्या आएगा?

$$21 O 5 P 69 N 3 P \sqrt{225} M 88 = ?$$

Ans  1. 55

2. 50

3. 61

4. 65

Question ID : 26433057620

Option 1 ID : 264330225466

Option 2 ID : 264330225465

Option 3 ID : 264330225467

Option 4 ID : 264330225464

Status : Answered

Chosen Option : 1

Q.19 दो कथन दिए गए हैं, जिसके बाद दो निष्कर्ष I और II दिए गए हैं। कथनों को सत्य मानते हुए, भले ही वे सामान्य रूप से ज्ञात तथ्यों से भिन्न प्रतीत होते हों, निर्णय लें कि कौन-से निष्कर्ष कथनों का तार्किक रूप से पालन करते हैं?

कथन:

सभी नदियाँ झीलें हैं।

कुछ समुद्र नदियाँ हैं।

निष्कर्ष:

I) कुछ समुद्र झीलें हैं।

II) सभी झीलें नदियाँ हैं।

Ans  1. न तो निष्कर्ष I और न ही निष्कर्ष II पालन करता है।

2. निष्कर्ष I और II दोनों पालन करते हैं।

3. केवल निष्कर्ष II पालन करता है।

4. केवल निष्कर्ष I पालन करता है।

Question ID : 26433067708

Option 1 ID : 264330265347

Option 2 ID : 264330265346

Option 3 ID : 264330265345

Option 4 ID : 264330265344

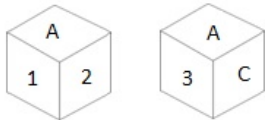
Status : Answered

Chosen Option : 4

Q.20 एक पासे के अलग-अलग फलकों पर छह अक्षर/अंक A, B, C, 1, 2 और 3

लिखे गए हैं। इस पासे की दो स्थितियाँ दी गई आकृति में दिखाई गई हैं। 3

अंक वाले फलक के विपरीत फलक पर कौन-सा अक्षर/अंक है?



Ans  1. B

2. 1

3. 2

4. C

Question ID : 264330109199

Option 1 ID : 264330429075

Option 2 ID : 264330429073

Option 3 ID : 264330429074

Option 4 ID : 264330429076

Status : Answered

Chosen Option : 2

Q.21 उस विकल्प आकृति का चयन करें जिसमें उसके भाग के रूप में दी गई आकृति सन्निहित है (आकृति को घुमाने की अनुमति नहीं है)।



Ans

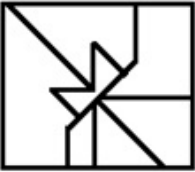
✗ 1.



✓ 2.



✗ 3.



✗ 4.



Question ID : 264330117424

Option 1 ID : 264330461738

Option 2 ID : 264330461739

Option 3 ID : 264330461737

Option 4 ID : 264330461740

Status : Answered

Chosen Option : 2

Q.22 दिए गए अक्षर-समूहों में से कौन-सा, दी गई श्रृंखला में प्रश्न-चिह्न (?) के स्थान पर आकर श्रृंखला को पूर्ण करेगा?

BRCQ, EPFO, ?, KLLK, NJOI

Ans ✗ 1. HINO

✗ 2. GINO

✗ 3. GNMI

✓ 4. HNIM

Question ID : 264330180761

Option 1 ID : 264330709011

Option 2 ID : 264330709013

Option 3 ID : 264330709014

Option 4 ID : 264330709012

Status : Answered

Chosen Option : 4



Q.23 एक पासे के अलग-अलग फलकों पर छह अक्षर/अंक A, B, C, 1, 2 और 3 लिखे गए हैं। इस पासे की दो स्थितियां दी गई आकृति में दिखाई गई हैं। C अक्षर वाले फलक के विपरीत फलक पर कौन-सा अक्षर/अंक है?



- Ans
- 1. A
  - 2. B
  - 3. 2
  - 4. 3

Question ID : 264330109198

Option 1 ID : 264330429072

Option 2 ID : 264330429070

Option 3 ID : 264330429071

Option 4 ID : 264330429069

Status : Answered

Chosen Option : 3

Q.24 यदि '+' का अर्थ '-' है, '-' का अर्थ 'x' है, 'x' का अर्थ '-' है और '-' का अर्थ '+' है, तो निम्नलिखित समीकरण में '?' के स्थान पर क्या आएगा?

$$79 \div 64 \times 8 - 7 + 12 = ?$$

- Ans
- 1. 123
  - 2. 117
  - 3. 147
  - 4. 138

Question ID : 264330101147

Option 1 ID : 264330397135

Option 2 ID : 264330397136

Option 3 ID : 264330397133

Option 4 ID : 264330397134

Status : Answered

Chosen Option : 1

Q.25 उस समुच्चय का चयन कीजिए जिसमें संख्याएँ एक-दूसरे से उसी प्रकार संबंधित हैं जिस प्रकार निम्नलिखित समुच्चय की संख्याएँ आपस में संबंधित हैं।

(नोट: संख्याओं को उसके घटक अंकों में विभाजित किए बिना, पूर्ण संख्याओं पर गणितीय संक्रियाएँ की जानी चाहिए। उदाहरण के लिए 13 - संख्या 13 पर गणितीय संक्रियाएँ जैसे कि जोड़ना / घटाना / गुणा करना आदि को 13 से किया जा सकता है। 13 को 1 और 3 में तोड़ना और फिर 1 और 3 पर गणितीय संक्रियाएँ करने की अनुमति नहीं है)

(5, 4, 2)  
(9, 9, 3)

- Ans
- 1. (5,2,6)
  - 2. (24,43,34)
  - 3. (17,6,5)
  - 4. (21,39,1)

Question ID : 264330145333

Option 1 ID : 264330569588

Option 2 ID : 264330569589

Option 3 ID : 264330569587

Option 4 ID : 264330569590

Status : Not Answered

Chosen Option : --

Q.26 निम्नलिखित चार अक्षर-समूहों में से तीन किसी निश्चित तरीके से संगत हैं, और एक असंगत है। असंगत का चयन कीजिए।

- Ans  1. CEAX  
 2. GIET  
 3. SQUH  
 4. MOKN

Question ID : 26433068791  
Option 1 ID : 264330269676  
Option 2 ID : 264330269678  
Option 3 ID : 264330269677  
Option 4 ID : 264330269679  
Status : Answered  
Chosen Option : 3

Q.27 निम्नलिखित में से कौन-सी संख्या दी गई श्रृंखला में प्रश्न चिह्न (?) के स्थान पर आएगी?  
270, 241, 212, ?, 154, 125

- Ans  1. 198  
 2. 192  
 3. 183  
 4. 186

Question ID : 26433067626  
Option 1 ID : 264330265016  
Option 2 ID : 264330265017  
Option 3 ID : 264330265019  
Option 4 ID : 264330265018  
Status : Answered  
Chosen Option : 3

Q.28 दिए गए समीकरण को सही बनाने के लिए किन दो चिह्नों को आपस में बदला जाना चाहिए?  
 $39 \div 3 - 11 + 57 \times 29 = 171$

- Ans  1. - और  $\times$   
 2. + और -  
 3. + और +  
 4. - और +

Question ID : 264330129524  
Option 1 ID : 264330507465  
Option 2 ID : 264330507462  
Option 3 ID : 264330507463  
Option 4 ID : 264330507464  
Status : Answered  
Chosen Option : 1

Q.29 दी गई श्रृंखला को पूर्ण करने के लिए कौन-सा अक्षर-समूह प्रश्न-चिह्न (?) के स्थान पर आएगा?  
FOHV, CKER, ?, WCYJ, TYVF

- Ans
- 1. AFCP
  - 2. XHBM
  - 3. AHCO
  - 4. ZGBN

Question ID : 26433086264  
Option 1 ID : 264330338750  
Option 2 ID : 264330338749  
Option 3 ID : 264330338752  
Option 4 ID : 264330338751  
Status : Answered  
Chosen Option : 4

Q.30 एक निश्चित कूट भाषा में, "Live long" को "mu ae" के रूप में कूटबद्ध किया जाता है, "Road is long" को "ae si du" के रूप में कूटबद्ध किया जाता है, और "Game is live" को "si mu zt" के रूप में कूटबद्ध किया जाता है। शब्द "Game" के लिए कूट क्या होगा?

- Ans
- 1. zt
  - 2. mu
  - 3. ae
  - 4. si

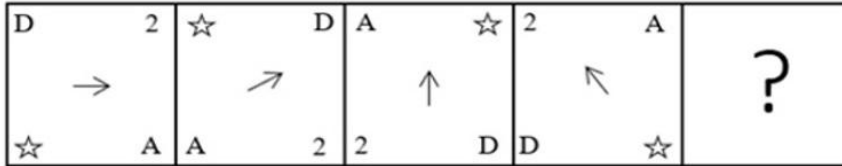
Question ID : 26433074769  
Option 1 ID : 264330293165  
Option 2 ID : 264330293167  
Option 3 ID : 264330293166  
Option 4 ID : 264330293164  
Status : Answered  
Chosen Option : 1

Q.31 निम्नलिखित में से कौन-सी संख्या दी गई श्रृंखला में प्रश्नवाचक चिह्न (?) का स्थान लेगी?  
5, 20, 60, 240, 720, ?

- Ans
- 1. 2880
  - 2. 2675
  - 3. 2580
  - 4. 2160

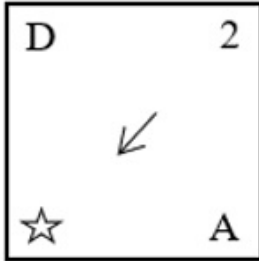
Question ID : 26433057344  
Option 1 ID : 264330224362  
Option 2 ID : 264330224360  
Option 3 ID : 264330224361  
Option 4 ID : 264330224363  
Status : Answered  
Chosen Option : 1

Q.32 यदि निम्नलिखित आकृति श्रृंखला को जारी रखा जाए, तो दिए गए विकल्पों में से कौन-सी आकृति प्रश्नवाचक चिन्ह (?) को प्रतिस्थापित करेगी?

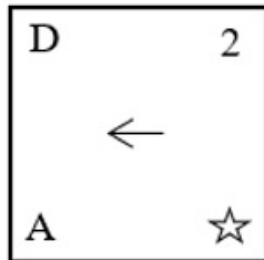


Ans

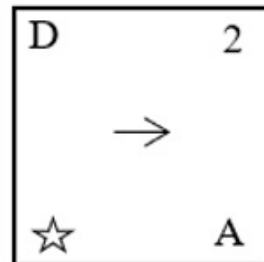
✗ 1.



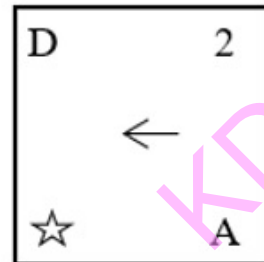
✗ 2.



✗ 3.



✓ 4.



Question ID : 264330145483

Option 1 ID : 264330570188

Option 2 ID : 264330570189

Option 3 ID : 264330570190

Option 4 ID : 264330570187

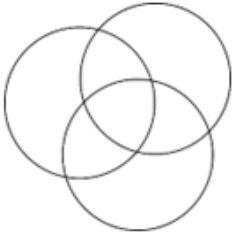
Status : Answered

Chosen Option : 4

Q.33 उस वेन आरेख का चयन करें, जो निम्नलिखित वर्गों के बीच के संबंध को सर्वोत्तम ढंग से दर्शाता है।  
कपड़े, जूते, शर्ट

Ans

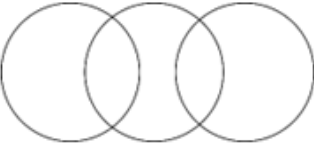
✗ 1.



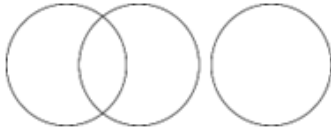
✓ 2.



✗ 3.



✗ 4.



Question ID : 264330132029

Option 1 ID : 264330517213

Option 2 ID : 264330517214

Option 3 ID : 264330517212

Option 4 ID : 264330517211

Status : Answered

Chosen Option : 2

Q.34 एक निश्चित कूट भाषा में "SPAM" को "36" और "JUG" को "27" के रूप में कूटबद्ध किया जाता है।  
उसी कूट भाषा में "FROCK" को किस प्रकार कूटबद्ध किया जाएगा?

Ans ✓ 1. 45

✗ 2. 72

✗ 3. 48

✗ 4. 90

Question ID : 26433079046

Option 1 ID : 264330310191

Option 2 ID : 264330310189

Option 3 ID : 264330310190

Option 4 ID : 264330310188

Status : Answered

Chosen Option : 1

Q.35 दिए गए विकल्पों में से वह संख्या चुनिए, जो निम्नलिखित श्रृंखला में प्रश्न-चिह्न (?) को प्रतिस्थापित कर सके।

144, 171, 200, ?, 264

Ans  1. 231

2. 240

3. 256

4. 225

Question ID : 26433074540

Option 1 ID : 264330292250

Option 2 ID : 264330292251

Option 3 ID : 264330292249

Option 4 ID : 264330292248

Status : Answered

Chosen Option : 1

Q.36 Q + J का अर्थ है "Q, J का पति है"  
Q - J का अर्थ है "Q, J का पिता है"  
Q × J का अर्थ है "Q, J की माता है"  
Q \* J का अर्थ है "Q, J की पुत्री है"

यदि  $D * V + B * U$  है तो, D का U से क्या संबंध है?

Ans  1. भाई

2. बहन

3. पुत्री

4. माता

Question ID : 264330130334

Option 1 ID : 264330510447

Option 2 ID : 264330510448

Option 3 ID : 264330510449

Option 4 ID : 264330510450

Status : Marked For Review

Chosen Option : 2

Q.37 उस समुच्चय का चयन कीजिए जिसमें संख्याएँ आपस में उसी प्रकार संबंधित हैं जिस प्रकार निम्नलिखित समुच्चयों की संख्याएँ आपस में संबंधित हैं।

(नोट: संख्याओं को उसके घटक अंकों में विभाजित किए बिना, पूर्ण संख्याओं पर गणितीय संक्रियाएँ की जानी चाहिए। उदाहरण के लिए 13 - गणितीय संक्रियाएँ जैसे कि जोड़ना/घटाना/गुणा करना इत्यादि 13 में किया जा सकता है। 13 को 1 और 3 में विभाजित करना और फिर 1 और 3 पर गणितीय संक्रियाएँ करने की अनुमति नहीं है।)

(53, 36, 25)

(71, 54, 43)

Ans  1. (32, 14, 7)

2. (66, 53, 41)

3. (99, 82, 71)

4. (41, 23, 18)

Question ID : 26433057459

Option 1 ID : 264330224823

Option 2 ID : 264330224820

Option 3 ID : 264330224822

Option 4 ID : 264330224821

Status : Answered

Chosen Option : 3

Q.38 उस समुच्चय का चयन कीजिए जिसमें संख्याएँ उसी प्रकार संबंधित हैं जिस प्रकार निम्नलिखित समुच्चयों की संख्याएँ संबंधित हैं।

(नोट: संख्याओं को उसके घटक अंकों में विभाजित किए बिना, पूर्ण संख्याओं पर संक्रियाएँ की जानी चाहिए। उदाहरण के लिए 13 - इसमें 13 पर जोड़ने / घटाने / गुणा करने आदि जैसी संक्रियाओं को 13 में किया जा सकता है। 13 को 1 और 3 में विभाजित करने और फिर 1 और 3 पर गणितीय संक्रियाएँ करने की अनुमति नहीं है)

(112, 327, 215), (98, 254, 156)

Ans  1. (105, 347, 322)

2. (126, 268, 142)

3. (108, 209, 184)

4. (281, 490, 309)

Question ID : 264330145298

Option 1 ID : 264330569447

Option 2 ID : 264330569450

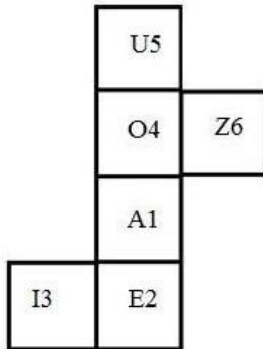
Option 3 ID : 264330569448

Option 4 ID : 264330569449

Status : Answered

Chosen Option : 2

Q.39 यदि दी गई शीट को मोड़कर एक घन बनाया जाए, तो निर्मित घन में अक्षर-संख्या 'A1' वाले फलक के विपरीत फलक पर कौन सी अक्षर-संख्या होगी? (एलिमेंट केवल फलकों को इंगित करने के लिए दिखाए गए हैं।)



Ans  1. E2

2. U5

3. I3

4. O4

Question ID : 26433065674

Option 1 ID : 264330257258

Option 2 ID : 264330257257

Option 3 ID : 264330257259

Option 4 ID : 264330257256

Status : Answered

Chosen Option : 2

Q.40 उस विकल्प का चयन करें, जो उन अक्षरों को निरूपित करता है, जिन्हें क्रमिक रूप से नीचे दिए गए रिक्त स्थानों में रखे जाने पर वे अक्षर-श्रृंखला को पूर्ण करेंगे।

a, b, a, b, b, b, \_, a, b, a, b, b, \_, a, a, b, a, b, b, b, \_

- Ans
- 1. b, a, b
  - 2. b, b, b
  - 3. a, b, a
  - 4. a, a, a

Question ID : 264330106617

Option 1 ID : 264330418772

Option 2 ID : 264330418770

Option 3 ID : 264330418769

Option 4 ID : 264330418771


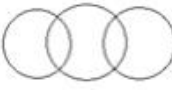


Status : Answered

Chosen Option : 3

Q.41 उस वेन आरेख का चयन करें, जो निम्नलिखित वर्गों के बीच के संबंध को सर्वोत्तम ढंग से दर्शाता है।

जानवर, जंगल, जंगली जानवर

Ans

- 1. 
- 2. 
- 3. 
- 4. 

Question ID : 264330145359

Option 1 ID : 264330569691

Option 2 ID : 264330569694

Option 3 ID : 264330569692

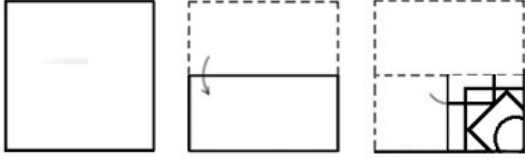
Option 4 ID : 264330569693

Status : Marked For Review

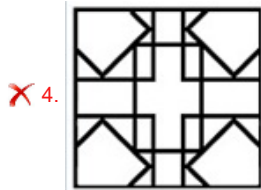
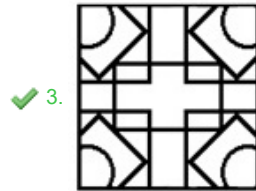
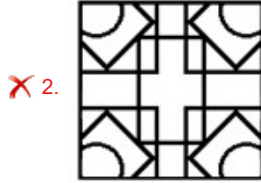
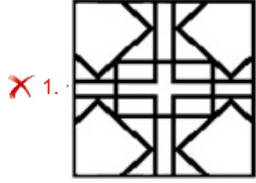
Chosen Option : 3



Q.42 नीचे आकृति में दिखाए गए अनुसार एक कागज को मोड़ा और काटा जाता है।  
खोले जाने पर यह कैसा दिखेगा?



Ans



Question ID : 26433040798

Option 1 ID : 264330159670

Option 2 ID : 264330159668

Option 3 ID : 264330159667

Option 4 ID : 264330159669

Status : Answered

Chosen Option : 3

Q.43 छः विद्यार्थी मीरा, जिज्ञासा, तरुण, नैना, शांभवी और अवनी एक वृत्ताकार मेज के परितः केंद्र की ओर मुख करके बैठे हैं (उनका इसी क्रम में होना अनिवार्य नहीं है)। शांभवी, जिज्ञासा और अवनी दोनों के ठीक बगल में है। तरुण, जिज्ञासा के बाईं ओर तीसरे स्थान पर बैठा है। मीरा, अवनी के दाईं ओर दूसरे स्थान पर बैठी है।  
जिज्ञासा के बाईं ओर दूसरे स्थान पर कौन बैठा/बैठी है?

Ans ✓ 1. मीरा

✗ 2. अवनी

✗ 3. नैना

✗ 4. तरुण

Question ID : 26433082277

Option 1 ID : 264330322943

Option 2 ID : 264330322941

Option 3 ID : 264330322944

Option 4 ID : 264330322942

Status : Answered

Chosen Option : 1

Q.44 दो कथनों के बाद तीन निष्कर्ष I, II और III दिए गए हैं। कथनों को सत्य मानते हुए, भले ही वे सामान्य रूप से ज्ञात तथ्यों से भिन्न प्रतीत होते हों, यह निर्णय लीजिए कि कौन-से निष्कर्ष कथनों का तार्किक रूप से पालन करते हैं?

कथन:

सभी चाबियां ताले हैं।

कोई दरवाजा ताला नहीं है।

निष्कर्ष:

I. कुछ ताले दरवाजे हैं।

II. कुछ ताले चाबियां हैं।

III. कोई भी चाबी दरवाजा नहीं है।

- Ans
- 1. निष्कर्ष I और II दोनों पालन करते हैं।
  - 2. निष्कर्ष I, II और III पालन करते हैं।
  - 3. निष्कर्ष II और III दोनों पालन करते हैं।
  - 4. निष्कर्ष I और III दोनों पालन करते हैं।

Question ID : 26433056067

Option 1 ID : 264330219252

Option 2 ID : 264330219255

Option 3 ID : 264330219254

Option 4 ID : 264330219253

Status : Answered

Chosen Option : 3

Q.45 उस विकल्प का चयन कीजिये जो तीसरे पद से उसी प्रकार संबंधित है जैसे दूसरा पद पहले पद से और छठा पद पांचवें पद से संबंधित है।

25 : 18 :: 37 : ? :: 49 : 36

- Ans
- 1. 27
  - 2. 29
  - 3. 32
  - 4. 30

Question ID : 26433079159

Option 1 ID : 264330310641

Option 2 ID : 264330310643

Option 3 ID : 264330310640

Option 4 ID : 264330310642

Status : Answered

Chosen Option : 1

Q.46 निम्नलिखित में से कौन-सी संख्या दी गई श्रृंखला में प्रश्न-चिह्न (?) का स्थान लेगी?

69, 65, 67, 63, ?, 61

- Ans
- 1. 65
  - 2. 64
  - 3. 60
  - 4. 62

Question ID : 26433091008

Option 1 ID : 264330357444

Option 2 ID : 264330357443

Option 3 ID : 264330357442

Option 4 ID : 264330357441

Status : Answered

Chosen Option : 1

Q.47 एक निश्चित कूट भाषा में "BLOCK" को LBCON के रूप में कूटबद्ध किया जाता है, और "CABIN" को ACIBQ के रूप में कूटबद्ध किया जाता है। उसी कूट भाषा में "SUITE" को किस प्रकार कूटबद्ध किया जाएगा?

- Ans
- 1. USHTI
  - 2. UTSEH
  - 3. ETHUS
  - 4. USTIH

Question ID : 264330132205

Option 1 ID : 264330517917

Option 2 ID : 264330517918

Option 3 ID : 264330517915

Option 4 ID : 264330517916

Status : Answered

Chosen Option : 4

Q.48 उस सही विकल्प का चयन कीजिए, जो दिए गए शब्दों के उसी क्रम में व्यवस्थापन को दर्शाता है, जिस क्रम में वे अंग्रेजी शब्दकोश में मौजूद होते हैं।

1. Warehouse
2. Warden
3. Warship
4. Wardrobe
5. Warrant
6. Warfare

- Ans
- 1. 2, 4, 6, 5, 1, 3
  - 2. 4, 2, 1, 6, 5, 3
  - 3. 2, 4, 1, 5, 6, 3
  - 4. 2, 4, 1, 6, 5, 3

Question ID : 264330145381

Option 1 ID : 264330569779

Option 2 ID : 264330569781

Option 3 ID : 264330569782

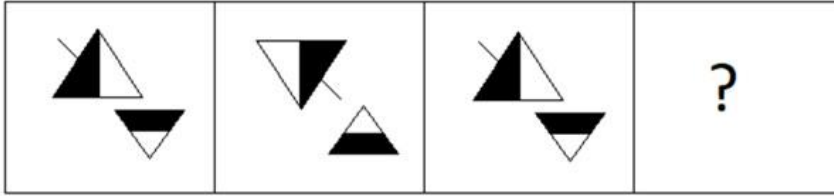
Option 4 ID : 264330569780

Status : Answered

Chosen Option : 4

Q.49

निम्नलिखित आकृति श्रृंखला में आगे आने वाली आकृति का चयन करें।




Ans

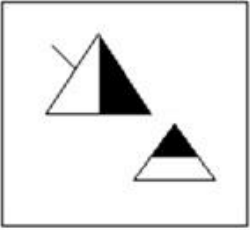
✓ 1.



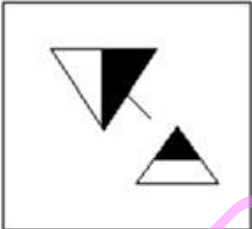
✗ 2.



✗ 3.



✗ 4.



Question ID : 26433087083

Option 1 ID : 264330341974

Option 2 ID : 264330341975

Option 3 ID : 264330341976

Option 4 ID : 264330341973

Status : Marked For Review

Chosen Option : 1

Q.50 यदि '+' का अर्थ '-', '-' का अर्थ 'x', 'x' का अर्थ '=', '=' का अर्थ '+' हो, तो निम्नलिखित समीकरण में प्रश्न चिह्न (?) के स्थान पर क्या आएगा?  
 $39 \times 3 - 11 \div 57 + 29 = ?$

- Ans
- 1. 185
  - 2. 190
  - 3. 163
  - 4. 171

Question ID : 264330126060  
Option 1 ID : 264330493914  
Option 2 ID : 264330493915  
Option 3 ID : 264330493912  
Option 4 ID : 264330493913  
Status : Answered  
Chosen Option : 4

Section : General Knowledge and General Awareness

Q.1 मणिपुरी शास्त्रीय नृत्य के मर्दाना पहलू (masculine aspect) को किसके रूप में जाना जाता है?

- Ans
- 1. परेंग (Pareng)
  - 2. रास (Ras)
  - 3. चोलोम (Choloms)
  - 4. माईबा (Maiba)

Question ID : 26433092386  
Option 1 ID : 264330362835  
Option 2 ID : 264330362834  
Option 3 ID : 264330362833  
Option 4 ID : 264330362836  
Status : Answered  
Chosen Option : 3

Q.2 भारतीय संविधान के किन अनुच्छेदों में मूल अधिकारों का वर्णन है?

- Ans
- 1. अनुच्छेद 5 से 11
  - 2. अनुच्छेद 12 से 35
  - 3. अनुच्छेद 36 से 51
  - 4. अनुच्छेद 52 से 62

Question ID : 264330111520  
Option 1 ID : 264330438165  
Option 2 ID : 264330438166  
Option 3 ID : 264330438167  
Option 4 ID : 264330438168  
Status : Answered  
Chosen Option : 2

Q.3 पश्चिमी घाट में स्थानांतरी कृषि (shifting agriculture) को \_\_\_\_\_ के नाम से जाना जाता है।

- Ans
- 1. कोमन
  - 2. दहिया
  - 3. वाल्ट्रे
  - 4. कुमारी

Question ID : 264330113261  
Option 1 ID : 264330445129  
Option 2 ID : 264330445131  
Option 3 ID : 264330445132  
Option 4 ID : 264330445130  
Status : Answered  
Chosen Option : 2

Q.4 निम्नलिखित में से किस वर्ष से राजपथ को गणतंत्र दिवस परेड के लिए एक स्थायी स्थल बनाने का निर्णय लिया गया था?

- Ans
- 1. 1958
  - 2. 1951
  - 3. 1955
  - 4. 1959

Question ID : 264330145139  
Option 1 ID : 264330568812  
Option 2 ID : 264330568813  
Option 3 ID : 264330568811  
Option 4 ID : 264330568814  
Status : Answered  
Chosen Option : 2

Q.5 थियोसोफिकल सोसायटी के संस्थापक कौन थे/थें?

- Ans
- 1. एच.पी. ब्लावात्स्की और कर्नल ओल्कोट
  - 2. मैडम भीकाजी कामा
  - 3. एनी बेसेंट
  - 4. चार्ल्स डब्ल्यू. लीडबीटर और एमिली लुट्यन्स

Question ID : 26433099178  
Option 1 ID : 264330389328  
Option 2 ID : 264330389327  
Option 3 ID : 264330389325  
Option 4 ID : 264330389326  
Status : Answered  
Chosen Option : 3

Q.6 घनकांत बोरा बोरबायन (Ghanakanta Bora Borbayan) को निम्नलिखित में से किस क्षेत्र में उनके योगदान के लिए पद्म श्री पुरस्कार से सम्मानित किया गया है?

- Ans
- 1. बागुरुम्बा
  - 2. भोरताल
  - 3. सत्रीया
  - 4. छऊ

Question ID : 264330145161  
Option 1 ID : 264330568899  
Option 2 ID : 264330568900  
Option 3 ID : 264330568901  
Option 4 ID : 264330568902  
Status : Not Answered  
Chosen Option : --

Q.7 स्मार्ट सिटी मिशन के शुभारंभ के समय, इस योजना के तहत कितने शहरों को शामिल करने का प्रस्ताव था?

- Ans  1. 100  
 2. 75  
 3. 50  
 4. 25

Question ID : 26433064565  
Option 1 ID : 264330252855  
Option 2 ID : 264330252854  
Option 3 ID : 264330252853  
Option 4 ID : 264330252852  
Status : Answered  
Chosen Option : 1

Q.8 ठुमरी संगीत निम्नलिखित में से किस नृत्य शैली से संबंधित है?

- Ans  1. सत्रीया  
 2. कथक  
 3. भरतनाट्यम्  
 4. कथकली

Question ID : 26433064645  
Option 1 ID : 264330253174  
Option 2 ID : 264330253175  
Option 3 ID : 264330253172  
Option 4 ID : 264330253173  
Status : Not Answered  
Chosen Option : --

Q.9 18वीं शताब्दी में सात वर्षों का युद्ध ब्रिटेन और \_\_\_\_\_ के बीच लड़ा गया था।

- Ans  1. स्पेन  
 2. फ्रांस  
 3. पुर्तगाल  
 4. जर्मनी

Question ID : 264330165387  
Option 1 ID : 264330648630  
Option 2 ID : 264330648628  
Option 3 ID : 264330648629  
Option 4 ID : 264330648627  
Status : Answered  
Chosen Option : 2

Q.10 आप उस ग्लाइकोकैलिक्स (Glycocalyx) को क्या कहेंगे, जो एक ढीली आच्छद प्रकार की है?

- Ans  1. कैप्सूल (Capsule)  
 2. नलिका (Tubules)  
 3. अवपंक परत (Slime layer)  
 4. मीसोसोम (Mesosomes)

Question ID : 264330145212  
Option 1 ID : 264330569104  
Option 2 ID : 264330569106  
Option 3 ID : 264330569103  
Option 4 ID : 264330569105  
Status : Not Answered  
Chosen Option : --

Q.11 भारतीय संविधान का कौन-सा अनुच्छेद राज्य विधानमंडल के संबंध में मंत्रियों के अधिकारों को संदर्भित करता है?

- Ans  1. अनुच्छेद 177  
 2. अनुच्छेद 175  
 3. अनुच्छेद 176  
 4. अनुच्छेद 178

Question ID : 264330114503  
Option 1 ID : 264330450099  
Option 2 ID : 264330450097  
Option 3 ID : 264330450098  
Option 4 ID : 264330450100  
Status : Not Answered  
Chosen Option : --

Q.12 भारत की जनगणना 2011 के अनुसार, निम्नलिखित राज्यों में से किस राज्य की कुल जनसंख्या में हिंदू जनसंख्या का प्रतिशत सर्वाधिक है?

- Ans  1. हरियाणा  
 2. उत्तर प्रदेश  
 3. हिमाचल प्रदेश  
 4. मध्य प्रदेश

Question ID : 264330166808  
Option 1 ID : 264330654269  
Option 2 ID : 264330654268  
Option 3 ID : 264330654267  
Option 4 ID : 264330654270  
Status : Answered  
Chosen Option : 3

Q.13 1928 में निष्पादित कौन-सा समीकरण एक सापेक्ष गति पर गतिमान इलेक्ट्रॉन के व्यवहार का वर्णन करने के लिए क्रांति सिद्धांत और विशिष्ट आपेक्षिकता को संयोजित करता है?

- Ans  1. हेल्महोल्त्ज़ समीकरण (Helmholtz equation)  
 2. डायराक समीकरण (Dirac equation)  
 3. बरनौली समीकरण (Bernoulli's equation)  
 4. लोरेन्ज़ समीकरण (Lorentz equation)

Question ID : 264330141666  
Option 1 ID : 264330554986  
Option 2 ID : 264330554984  
Option 3 ID : 264330554985  
Option 4 ID : 264330554983  
Status : Not Answered  
Chosen Option : --



Q.14 रासायनिक सूत्र  $C_6H_4(OH)_2$  वाले बेंजीनडियोल (benzenediol) के 1,3-आइसोमर (या मेटा-आइसोमर) का नाम क्या है?

- Ans  1. कैटेकोल (Catechol)  
 2. रेसोर्सिनोल (Resorcinol)  
 3. ग्लिसरॉल (Glycerol)  
 4. m-क्रिसोल (m-Cresol)

Question ID : 264330110054  
Option 1 ID : 264330432494  
Option 2 ID : 264330432495  
Option 3 ID : 264330432493  
Option 4 ID : 264330432496  
Status : Not Answered  
Chosen Option : --

Q.15 निम्नलिखित में से कौन-सा एक अप्रत्यक्ष कर है?

- Ans  1. मृत्यु शुल्क  
 2. ब्याज कर  
 3. पूंजी लाभ कर  
 4. वस्तु एवं सेवा कर

Question ID : 264330145244  
Option 1 ID : 264330569233  
Option 2 ID : 264330569232  
Option 3 ID : 264330569231  
Option 4 ID : 264330569234  
Status : Answered  
Chosen Option : 4

Q.16 लावणी निम्नलिखित में से किस राज्य का पारंपरिक नृत्य है?

- Ans  1. महाराष्ट्र  
 2. उत्तर प्रदेश  
 3. मध्य प्रदेश  
 4. हिमाचल प्रदेश

Question ID : 264330164796  
Option 1 ID : 264330646312  
Option 2 ID : 264330646311  
Option 3 ID : 264330646313  
Option 4 ID : 264330646314  
Status : Answered  
Chosen Option : 1

Q.17 बॉल बैडमिंटन के खेल में गेंद का रंग क्या होना चाहिए?

- Ans  1. लाल  
 2. पीला  
 3. गुलाबी  
 4. हरा

Question ID : 26433059449  
Option 1 ID : 264330232665  
Option 2 ID : 264330232667  
Option 3 ID : 264330232664  
Option 4 ID : 264330232666  
Status : Marked For Review  
Chosen Option : 4

Q.18 भारत में स्थित एक प्रसिद्ध मीनार और उसके निर्माण वर्ष के गलत युग्म का चयन कीजिए।

- Ans  1. चार मीनार-1664 ई.  
 2. शहीद मीनार-1828 ई.  
 3. चांद मीनार-1435 ई.  
 4. झूलता मीनार-1452 ई.

Question ID : 264330141821  
Option 1 ID : 264330555604  
Option 2 ID : 264330555606  
Option 3 ID : 264330555603  
Option 4 ID : 264330555605  
Status : Not Answered  
Chosen Option : --

Q.19 हॉकी की गेंद का मानक वजन कितना होता है?

- Ans  1. 160 gm - 156 gm  
 2. 162 gm - 156 gm  
 3. 163 gm - 156 gm  
 4. 161 gm - 156 gm

Question ID : 264330118470  
Option 1 ID : 264330465281  
Option 2 ID : 264330465283  
Option 3 ID : 264330465284  
Option 4 ID : 264330465282  
Status : Not Answered  
Chosen Option : --

Q.20 शस्त्र अधिनियम \_\_\_\_\_ में पारित किया गया था, जिसने भारतीयों को उचित लाइसेंस के बिना हथियार रखने से रोका था।

- Ans  1. 1897  
 2. 1878  
 3. 1912  
 4. 1909

Question ID : 264330112335  
Option 1 ID : 264330441427  
Option 2 ID : 264330441425  
Option 3 ID : 264330441426  
Option 4 ID : 264330441428  
Status : Not Answered  
Chosen Option : --

Q.21 दिहांग और लोहित निम्नलिखित में से किस क्षेत्र की नदियाँ हैं?

- Ans  1. सिक्किम और मणिपुर  
 2. जम्मू कश्मीर  
 3. पंजाब और हिमाचल  
 4. अरुणाचल प्रदेश और असम

Question ID : 264330119796  
Option 1 ID : 264330469462  
Option 2 ID : 264330469460  
Option 3 ID : 264330469459  
Option 4 ID : 264330469461  
Status : Answered  
Chosen Option : 4

Q.22 पृथ्वी के इतिहास के कितने प्रतिशत समय तक पृथ्वी पर जीव (Living organisms) मौजूद रहे हैं?

Ans  1. 80%

2. 40%

3. 20%

4. 60%

Question ID : 26433064467  
Option 1 ID : 264330252460  
Option 2 ID : 264330252462  
Option 3 ID : 264330252463  
Option 4 ID : 264330252461  
Status : Not Answered  
Chosen Option : --

Q.23 निम्नलिखित में से किस वैज्ञानिक ने अष्टक सिद्धांत (Law of Octaves) प्रदान किया?

Ans  1. मैरी क्यूरी

2. माइकल फैराडे

3. गैलीलियो गैलिली

4. जॉन न्यूलैंड्स

Question ID : 264330131108  
Option 1 ID : 264330513546  
Option 2 ID : 264330513545  
Option 3 ID : 264330513544  
Option 4 ID : 264330513543  
Status : Answered  
Chosen Option : 4

Q.24 निम्नलिखित में से कौन बहमनी सुल्तान क्रूरता के लिए विख्यात था और इसलिए उसे 'ज़ालिम' की उपाधि मिली?

Ans  1. मुजाहिद शाह

2. हुमायूं

3. फिरोज शाह

4. अहमद शाह

Question ID : 264330109014  
Option 1 ID : 264330428336  
Option 2 ID : 264330428334  
Option 3 ID : 264330428335  
Option 4 ID : 264330428333  
Status : Not Answered  
Chosen Option : --

Q.25 भारत ने किस पंचवर्षीय योजना से अपनी औद्योगीकरण की यात्रा की शुरुआत की थी?

- Ans
- 1. चौथी पंचवर्षीय योजना
  - 2. दूसरी पंचवर्षीय योजना
  - 3. तीसरी पंचवर्षीय योजना
  - 4. पांचवी पंचवर्षीय योजना

Question ID : 264330145231

Option 1 ID : 264330569181

Option 2 ID : 264330569182

Option 3 ID : 264330569180

Option 4 ID : 264330569179

Status : Answered

Chosen Option : 2

Q.26 भारतीय संविधान के किस अनुच्छेद में उल्लेख है कि भारत के राज्यक्षेत्र के सभी प्राधिकारी - दीवानी (सिविल) और न्यायिक (ज्यूडिशियल) - उच्चतम न्यायालय की सहायता में कार्य करेंगे?

- Ans
- 1. अनुच्छेद 141
  - 2. अनुच्छेद 143
  - 3. अनुच्छेद 144
  - 4. अनुच्छेद 142

Question ID : 264330164950

Option 1 ID : 264330646927

Option 2 ID : 264330646929

Option 3 ID : 264330646930

Option 4 ID : 264330646928

Status : Not Answered

Chosen Option : --

Q.27 हरित क्रांति के संबंध में निम्नलिखित में से कौन से कथन सही हैं?

- I. हरित क्रांति की शुरुआत 1960 के दशक में हुई।
- II. बीज की उच्च-उपज वाली किस्मों (HYV) ने हरित क्रांति को सफल बनाया।
- III. मवेशियों का व्यापक उपयोग भी हरित क्रांति का एक घटक था।

- Ans
- 1. केवल II
  - 2. केवल II और III
  - 3. केवल I
  - 4. केवल I और II

Question ID : 264330141499

Option 1 ID : 264330554332

Option 2 ID : 264330554333

Option 3 ID : 264330554331

Option 4 ID : 264330554334

Status : Not Answered

Chosen Option : --

Q.28 'ड्रिबल (Dribble)' शब्द आम तौर पर \_\_\_\_\_ से संबंधित है।

- Ans
- 1. टेनिस
  - 2. बेसबॉल
  - 3. क्रिकेट
  - 4. बास्केटबॉल

Question ID : 264330109729

Option 1 ID : 264330431196

Option 2 ID : 264330431193

Option 3 ID : 264330431195

Option 4 ID : 264330431194

Status : Not Answered

Chosen Option : --

Q.29 भारत में सल्तनत काल के निम्नलिखित शास्त्रीय कवियों में से किसने कव्वाली को लोकप्रिय बनाया था, जो संगीत की एक ऐसी शैली है, जिसका नाम अरबी शब्द 'कौल (qaul)' से लिया गया है, जिसका अर्थ है 'बोलना'?

- Ans
- 1. निज़ामुद्दीन औलिया
  - 2. शम्सुद्दीन मुहम्मद हाफिज
  - 3. अमीर खुसरो
  - 4. जलाल-उद्-दीन मुहम्मद रूमी

Question ID : 26433074824

Option 1 ID : 264330293385

Option 2 ID : 264330293387

Option 3 ID : 264330293384

Option 4 ID : 264330293386

Status : Answered

Chosen Option : 1

Q.30 निम्नलिखित पुस्तकों में से कौन-सी भारतीय राजनेता एल के आडवाणी की आत्मकथा है?

- Ans
- 1. विंस ऑफ फायर : एन ऑटोबायोग्राफी
  - 2. इन पर्सूइंट ऑफ जस्टिस : एन ऑटोबायोग्राफी
  - 3. माई कंट्री माई लाइफ
  - 4. माय टाइम्स : एन ऑटोबायोग्राफी

Question ID : 264330145179

Option 1 ID : 264330568974

Option 2 ID : 264330568973

Option 3 ID : 264330568972

Option 4 ID : 264330568971

Status : Answered

Chosen Option : 4

Q.31 नीरुस्वामी पिल्लई और राजारतनम पिल्लई किस वाद्य-यंत्र के प्रतिपादक (exponents) हैं?

- Ans
- 1. सारंगी
  - 2. मृदंगम
  - 3. मैन्डोलिन
  - 4. नादस्वरन

Question ID : 264330145152

Option 1 ID : 264330568866

Option 2 ID : 264330568864

Option 3 ID : 264330568865

Option 4 ID : 264330568863

Status : Not Answered

Chosen Option : --

Q.32 'महाद्वीपीयता (continentality)' से संबंधित सही कथनों का चयन कीजिए।

- a. समुद्र जलवायु पर मध्यम प्रभाव डालता है।  
b. जैसे-जैसे समुद्र से दूरी बढ़ती है, लोगों को चरम मौसम स्थितियों का अनुभव होता है।  
c. जैसे-जैसे कोई पृथ्वी की सतह से अधिक ऊँचाई वाले स्थानों की ओर जाता है, वायुमंडल कम सघन होता जाता है, और तापमान कम होता जाता है।

- Ans  1. a और b  
 2. केवल c  
 3. b और c  
 4. a और c

Question ID : 264330169314

Option 1 ID : 264330664036

Option 2 ID : 264330664035

Option 3 ID : 264330664037

Option 4 ID : 264330664038

Status : Not Answered

Chosen Option : --

Q.33 दिल्ली के निम्नलिखित में से किस सुल्तान को सुल्तान बनने से पहले अमीर-ए-तुजुक (मास्टर ऑफ सेरेमनीज़) नियुक्त किया गया था?

- Ans  1. मुहम्मद बिन तुगलक  
 2. बलबन  
 3. इल्तुतमिश  
 4. अलाउद्दीन खिलजी

Question ID : 264330165362

Option 1 ID : 264330648527

Option 2 ID : 264330648528

Option 3 ID : 264330648530

Option 4 ID : 264330648529

Status : Answered

Chosen Option : 3

Q.34 कोपेन के वर्गीकरण के अनुसार, किन क्षेत्रों में कम अवधि के ग्रीष्मकाल के साथ ठंडी आर्द्र शीत ऋतु (cold humid winter) होती है?

- Ans  1. पश्चिमी राजस्थान  
 2. गोवा के दक्षिण में  
 3. अरुणाचल प्रदेश  
 4. उत्तरी मध्य प्रदेश

Question ID : 264330145192

Option 1 ID : 264330569023

Option 2 ID : 264330569025

Option 3 ID : 264330569024

Option 4 ID : 264330569026

Status : Answered

Chosen Option : 3

Q.35 निम्नलिखित में से किस राज्य में एक वर्ष में ऑस, बोरो और अमन, धान की फसलें उगाई जाती हैं?

- Ans
- 1. पंजाब
  - 2. हरियाणा
  - 3. ओडिशा
  - 4. उत्तराखंड

Question ID : 264330163196

Option 1 ID : 264330640096

Option 2 ID : 264330640097

Option 3 ID : 264330640095

Option 4 ID : 264330640098

Status : Answered

Chosen Option : 3

Q.36 निम्नलिखित में से कौन सा आयरन की कमी से होने वाली रक्ताल्पता/एनीमिया (IDA) का प्रकटीकरण नहीं है?

- Ans
- 1. नरम तालु (Soft palate)
  - 2. अंधापन (Blindness)
  - 3. आँखों की नेत्रश्लेष्मला (conjunctiva) का पीलापन
  - 4. सामान्य पांडुता (General pallor)

Question ID : 26433086903

Option 1 ID : 264330341255

Option 2 ID : 264330341256

Option 3 ID : 264330341254

Option 4 ID : 264330341253

Status : Answered

Chosen Option : 2

Q.37 1932 में पॉज़िट्रॉन की खोज किसने की, जो एक ऐसा एक कण है, जिसे 'धनात्मक आवेश धारण किए होने के रूप में वर्णित किया गया है, परंतु उसके द्रव्यमान का परिमाण उसी कोटि का है, जो सामान्यतः एक मुक्त ऋणात्मक इलेक्ट्रॉन का होता है'?

- Ans
- 1. कार्ल एंडरसन
  - 2. अर्नेस्ट रदरफोर्ड
  - 3. नील्स बोर
  - 4. पॉल डिराक

Question ID : 26433055070

Option 1 ID : 264330215266

Option 2 ID : 264330215265

Option 3 ID : 264330215267

Option 4 ID : 264330215264

Status : Answered

Chosen Option : 3

Q.38 निम्नलिखित में से कौन-सा अधिकार 14 वर्ष से कम आयु के बच्चों को खतरनाक कार्यों में नियोजित करने पर रोक लगाता है?

- Ans
- 1. संवैधानिक उपचारों का अधिकार
  - 2. स्वतंत्रता का अधिकार
  - 3. शोषण के विरुद्ध अधिकार
  - 4. समानता का अधिकार

Question ID : 264330116399

Option 1 ID : 264330457683

Option 2 ID : 264330457682

Option 3 ID : 264330457681

Option 4 ID : 264330457684

Status : Answered

Chosen Option : 3

Q.39 कम से कम 3 महीने तक आहार में पर्याप्त विटामिन-सी नहीं लेने के कारण कौन-सी बीमारी होती है, जिसमें कमजोरी, रक्ताल्पता, मसूड़ों की बीमारी और त्वचा संबंधी समस्याएं होती हैं?

- Ans
- 1. बेरीबेरी
  - 2. पेलाग्रा
  - 3. स्कर्वी
  - 4. रिकेट्स

Question ID : 264330145200

Option 1 ID : 264330569057

Option 2 ID : 264330569056

Option 3 ID : 264330569055

Option 4 ID : 264330569058

Status : Answered

Chosen Option : 3

Q.40 2011 की जनगणना के अनुसार, किस राज्य की साक्षरता दर सबसे कम दर्ज की गई?

- Ans
- 1. झारखंड
  - 2. आंध्र प्रदेश
  - 3. बिहार
  - 4. अरुणाचल प्रदेश

Question ID : 264330110658

Option 1 ID : 264330434910

Option 2 ID : 264330434912

Option 3 ID : 264330434911

Option 4 ID : 264330434909

Status : Answered

Chosen Option : 3



Q.41 निम्नलिखित में से किस मौर्य राजा ने श्रवणबेलगोला में आमरण अनशन किया और उसकी मृत्यु हो गई थी?

- Ans  1. चन्द्रगुप्त मौर्य  
 2. अशोक  
 3. बिंदुसार  
 4. दशरथ

Question ID : 264330165560  
Option 1 ID : 264330649319  
Option 2 ID : 264330649321  
Option 3 ID : 264330649320  
Option 4 ID : 264330649322  
Status : Answered  
Chosen Option : 1

Q.42 भारत के संविधान का निम्नलिखित में से कौन सा अनुच्छेद, संघ और राज्यों के लिए लोक सेवा आयोगों की स्थापना का प्रावधान करता है?

- Ans  1. अनुच्छेद 318  
 2. अनुच्छेद 316  
 3. अनुच्छेद 317  
 4. अनुच्छेद 315

Question ID : 264330145262  
Option 1 ID : 264330569306  
Option 2 ID : 264330569304  
Option 3 ID : 264330569305  
Option 4 ID : 264330569303  
Status : Answered  
Chosen Option : 4

Q.43 किसी वस्तु को किसी अक्ष के परितः घुमाने वाले बल के माप को क्या कहा जाता है?

- Ans  1. शक्ति  
 2. अभिकेंद्र बल  
 3. जड़त्व आघूर्ण  
 4. बलाघूर्ण

Question ID : 264330111861  
Option 1 ID : 264330439530  
Option 2 ID : 264330439531  
Option 3 ID : 264330439532  
Option 4 ID : 264330439529  
Status : Marked For Review  
Chosen Option : 2

Q.44 निम्नलिखित में से कौन-सा जीव संघ एपिकॉम्प्लेक्सा (Apicomplexa) से संबंधित है?

- Ans  1. फ़ाइसेलिया (Physalia)  
 2. हाइड्रा (Hydra)  
 3. प्लाज्मोडियम (Plasmodium)  
 4. स्पंज (Sponge)

Question ID : 26433082204  
Option 1 ID : 264330322649  
Option 2 ID : 264330322650  
Option 3 ID : 264330322652  
Option 4 ID : 264330322651  
Status : Answered  
Chosen Option : 2

Q.45 नई दिल्ली में गणतंत्र दिवस परेड के दौरान सलामी कौन लेता है?

- Ans  1. राष्ट्रपति  
 2. राज्यपाल  
 3. मुख्य न्यायाधीश  
 4. प्रधानमंत्री

Question ID : 264330164810  
Option 1 ID : 264330646368  
Option 2 ID : 264330646369  
Option 3 ID : 264330646370  
Option 4 ID : 264330646367  
Status : Answered  
Chosen Option : 4

Q.46 बॉल बैडमिंटन में, खिलाड़ी प्रत्येक गेम में किसी भी साइड द्वारा पहले \_\_\_\_\_ के अतिरिक्त अन्य सभी स्कोर करने पर अपने छोर बदल लेते हैं।

- Ans  1. 11  
 2. 27  
 3. 18  
 4. 9

Question ID : 26433059450  
Option 1 ID : 264330232669  
Option 2 ID : 264330232671  
Option 3 ID : 264330232670  
Option 4 ID : 264330232668  
Status : Answered  
Chosen Option : 4

Q.47 भारतीय संविधान की द्विसदनात्मक विधायिका (bicameral legislature) क्या है?

- Ans  1. यह तीन सदनों वाला विधायी निकाय है।  
 2. यह दो सदनों वाला विधायी निकाय है।  
 3. यह एक सदन वाला विधायी निकाय है।  
 4. यह चार सदनों वाला विधायी निकाय है।

Question ID : 264330118527  
Option 1 ID : 264330465511  
Option 2 ID : 264330465510  
Option 3 ID : 264330465509  
Option 4 ID : 264330465512  
Status : Marked For Review  
Chosen Option : 2

Q.48 देश की जीडीपी (GDP) वृद्धि, बाह्य शेष (external balance) और राजकोषीय शेष (fiscal balance) का आकलन, बजट दस्तावेज के किस भाग में प्रस्तुत किया जाता है?

- Ans  1. वृहद आर्थिक रूपरेखा विवरण  
 2. विनियोग विधेयक  
 3. राजकोषीय नीति कार्ययोजना विवरण  
 4. मध्यावधिक राजकोषीय नीति विवरण

Question ID : 264330141436  
Option 1 ID : 264330554081  
Option 2 ID : 264330554082  
Option 3 ID : 264330554080  
Option 4 ID : 264330554079  
Status : Not Answered  
Chosen Option : --

Q.49 "द सोल ऑफ ए बटरफ्लाई: रिफ्लेक्शंस ऑन लाइफ्स जर्नी (The Soul of a Butterfly: Reflections on Life's Journey)" पुस्तक के लेखक कौन हैं?

- Ans
- 1. मोहम्मद अली
  - 2. यूजीन जे बुलार्ड
  - 3. जेक लामोट्टा
  - 4. रॉबर्टो ड्यूरान

Question ID : 26433071469  
Option 1 ID : 264330280300  
Option 2 ID : 264330280303  
Option 3 ID : 264330280302  
Option 4 ID : 264330280301  
Status : Not Answered  
Chosen Option : --

Q.50 \_\_\_\_\_ नदी में उपयोग करने योग्य जल भंडारण क्षमता सबसे कम है।

- Ans
- 1. गंगा
  - 2. कृष्णा
  - 3. ब्रह्मपुत्र
  - 4. गोदावरी

Question ID : 264330163238  
Option 1 ID : 264330640264  
Option 2 ID : 264330640265  
Option 3 ID : 264330640266  
Option 4 ID : 264330640263  
Status : Not Answered  
Chosen Option : --

Section : Quantitative Aptitude

Q.1 एक व्यक्ति एक निश्चित दूरी को बाइक से तय करता है। यदि वह उस दूरी का 25% भाग 25 km/h की चाल से, उस दूरी का 50% भाग 50 km/h की चाल से, और शेष दूरी 12.5 km/h की चाल से तय करता है, तो पूरी यात्रा के दौरान उसकी औसत चाल ज्ञात कीजिए।

- Ans
- 1. 35 km/h
  - 2. 30 km/h
  - 3. 25 km/h
  - 4. 20 km/h

Question ID : 26433063952  
Option 1 ID : 264330250403  
Option 2 ID : 264330250402  
Option 3 ID : 264330250401  
Option 4 ID : 264330250400  
Status : Answered  
Chosen Option : 2

Q.2 एक दुकानदार ने एक वस्तु पर ₹15,000 मूल्य अंकित किया, और उस पर 5%, 10% और 20% की क्रमिक छूटें दी गईं। विक्रय मूल्य कितना होगा?

- Ans
- 1. ₹13,520
  - 2. ₹11,520
  - 3. ₹9,850
  - 4. ₹10,260

Question ID : 264330104400

Option 1 ID : 264330409904

Option 2 ID : 264330409901

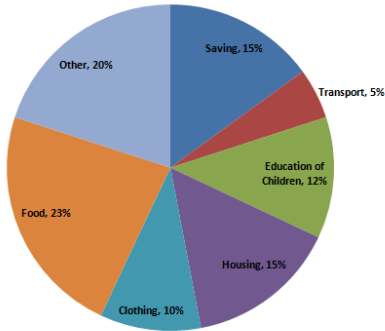
Option 3 ID : 264330409903

Option 4 ID : 264330409902

Status : Answered

Chosen Option : 4

Q.3 दिए गए पाई-चार्ट का अध्ययन करें और निम्नलिखित प्रश्न का उत्तर दें।  
पाई-चार्ट में वर्ष 2021 के दौरान विभिन्न मदों में एक परिवार द्वारा किए गए खर्च और उनकी बचत को दर्शाया गया है।



यदि वर्ष की कुल आय ₹1,00,000 थी, तो आवास और परिवहन के बीच खर्चों में अंतर (₹ में) कितना था?  
Food - भोजन Clothing - वस्त्र Housing - आवास Education of children - बच्चों की शिक्षा Saving - बचत Other - अन्य  
Transport - परिवहन

- Ans
- 1. 10,500
  - 2. 9,000
  - 3. 10,000
  - 4. 9,500

Question ID : 264330163476

Option 1 ID : 264330641166

Option 2 ID : 264330641163

Option 3 ID : 264330641165

Option 4 ID : 264330641164

Status : Answered

Chosen Option : 3

Q.4 दो प्रतिच्छेदी वृत्तों की उभयनिष्ठ जीवा की लंबाई 24 cm है। यदि वृत्तों के व्यास 30 cm और 26 cm हैं, तो केंद्रों के बीच की दूरी (cm में) \_\_\_\_\_ होगी।

- Ans
- 1. 14 cm
  - 2. 16 cm
  - 3. 12 cm
  - 4. 18 cm

Question ID : 264330170155

Option 1 ID : 264330667298

Option 2 ID : 264330667296

Option 3 ID : 264330667295

Option 4 ID : 264330667297

Status : Answered

Chosen Option : 1

Q.5 दिए गए व्यंजक का मान क्या होगा?

$$(x - 2y)(y - 3x) + (x + y)(x - y) + (x - 3y)(2x + y)$$

- Ans
- 1.  $2y(x + 3y)$
  - 2.  $2x(x + 3y)$
  - 3.  $2y(x - 3y)$
  - 4.  $2x(x - 3y)$

Question ID : 264330157774

Option 1 ID : 264330618458

Option 2 ID : 264330618457

Option 3 ID : 264330618456

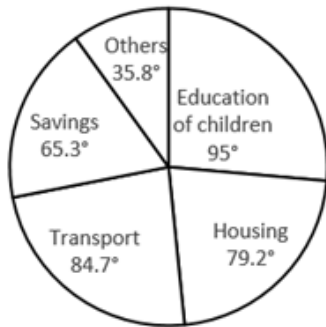
Option 4 ID : 264330618455

Status : Answered

Chosen Option : 4

Q.6 दिए गए पाई-चार्ट का ध्यानपूर्वक अध्ययन कीजिए, और निम्नलिखित प्रश्न का उत्तर दीजिए।  
एक महीने में एक परिवार के व्यय का डिग्री-वार विवरण

Total Amount Spent In a  
Month = ₹56800.



Total Amount Spent in a Month = एक महीने में खर्च की गई कुल राशि

Others = अन्य

Education of Children = बच्चों की शिक्षा

Housing = आवास

Transport = परिवहन

Savings = बचत

परिवार द्वारा आवास पर कितनी राशि खर्च की गई है?

- Ans
- 1. ₹11,814
  - 2. ₹6,248
  - 3. ₹12,496
  - 4. ₹10,615

Question ID : 264330165434

Option 1 ID : 264330648815

Option 2 ID : 264330648818

Option 3 ID : 264330648816

Option 4 ID : 264330648817

Status : Answered

Chosen Option : 3

Q.7 आयुष एक राशि का 25% बीमा पॉलिसी पर, 26% भोजन पर, 23% बच्चों की शिक्षा पर, और 19% मनोरंजन पर खर्च करता है। वह शेष ₹26,600 बैंक में जमा करता है। वह भोजन और मनोरंजन पर कुल-मिलाकर कुल कितनी राशि (₹में) खर्च करता है?

- Ans  1. 1,71,000  
 2. 1,95,000  
 3. 1,83,000  
 4. 1,62,000

Question ID : 264330158256

Option 1 ID : 264330620385

Option 2 ID : 264330620383

Option 3 ID : 264330620384

Option 4 ID : 264330620386

Status : Answered

Chosen Option : 1

Q.8 एक वस्तु 25% की छूट पर बेची जाती है, और नकद भुगतान पर 28% की अतिरिक्त छूट अनुमत्य है। यदि रामेंद्र ने ₹10,800 नकद देकर वह वस्तु खरीदी, तो उस वस्तु का अंकित मूल्य कितना था?

- Ans  1. ₹20,000  
 2. ₹20,800  
 3. ₹18,000  
 4. ₹19,800

Question ID : 264330165524

Option 1 ID : 264330649177

Option 2 ID : 264330649178

Option 3 ID : 264330649175

Option 4 ID : 264330649176

Status : Answered

Chosen Option : 1

Q.9 निम्नलिखित व्यंजक का मान क्या होगा?

$$b + 2a - [(3b + a) - (2a + b) + 2a] - a$$

- Ans  1. b  
 2. - b  
 3. - a  
 4. a

Question ID : 264330157761

Option 1 ID : 264330618403

Option 2 ID : 264330618404

Option 3 ID : 264330618406

Option 4 ID : 264330618405

Status : Answered

Chosen Option : 2

Q.10 यदि  $\sin\theta + \cos\theta = \sqrt{2} \cos\theta$  है, तो  $\frac{\sin\theta - \cos\theta}{\sin\theta}$  ज्ञात कीजिए।

- Ans  1.  $-\sqrt{2}$   
 2. 1  
 3. -1  
 4.  $\sqrt{2}$

Question ID : 264330158420  
Option 1 ID : 264330621042  
Option 2 ID : 264330621039  
Option 3 ID : 264330621040  
Option 4 ID : 264330621041  
Status : Answered  
Chosen Option : 1

Q.11 यदि दो संख्याओं का योग 60 है, और उनके महत्तम समापवर्तक (HCF) और लघुत्तम समापवर्त्य (LCM) क्रमशः 5 और 60 हैं, तो संख्याओं के व्युत्क्रमों का योग क्या होगा?

- Ans  1.  $\frac{1}{11}$   
 2.  $\frac{1}{4}$   
 3.  $\frac{1}{6}$   
 4.  $\frac{1}{5}$

Question ID : 26433096373  
Option 1 ID : 264330378232  
Option 2 ID : 264330378229  
Option 3 ID : 264330378231  
Option 4 ID : 264330378230  
Status : Answered  
Chosen Option : 4

Q.12 एक व्यक्ति की मासिक आय और व्यय का अनुपात 7 : 3 है। यदि उसका व्यय ₹5,400 है, तो उसकी मासिक आय ज्ञात कीजिए।

- Ans  1. ₹12,600  
 2. ₹13,300  
 3. ₹11,500  
 4. ₹10,400

Question ID : 264330145070  
Option 1 ID : 264330568537  
Option 2 ID : 264330568538  
Option 3 ID : 264330568536  
Option 4 ID : 264330568535  
Status : Answered  
Chosen Option : 1

Q.13 8, 12 और 18 का लघुत्तम समापवर्त्य (LCM) ज्ञात कीजिए।

- Ans  1. 36  
 2. 72  
 3. 24  
 4. 80

Question ID : 264330145079  
Option 1 ID : 264330568572  
Option 2 ID : 264330568573  
Option 3 ID : 264330568571  
Option 4 ID : 264330568574  
Status : Answered  
Chosen Option : 2

Q.14  $2\tan^2 45^\circ + \cos^2 30^\circ - \sin^2 60^\circ$  का मान क्या होगा?

- Ans  1. -2  
 2. 1  
 3. -1  
 4. 2

Question ID : 264330157752  
Option 1 ID : 264330618370  
Option 2 ID : 264330618367  
Option 3 ID : 264330618369  
Option 4 ID : 264330618368  
Status : Answered  
Chosen Option : 4

Q.15 एक वॉशिंग मशीन का मूल्य 3 वर्ष में ₹40,960 से घट कर ₹21,970 हो गया। मूल्यहास की वार्षिक दर ज्ञात कीजिए।

- Ans  1. 25%  
 2. 18.75%  
 3. 16.25%  
 4. 20%

Question ID : 264330145063  
Option 1 ID : 264330568507  
Option 2 ID : 264330568509  
Option 3 ID : 264330568508  
Option 4 ID : 264330568510  
Status : Answered  
Chosen Option : 2

Q.16 प्लास्टिक से बनी एक खोखली बेलनाकार नली 3 cm मोटी है। यदि इसका बाह्य व्यास 20 cm और ट्यूब की लंबाई 49 cm है, तो प्लास्टिक का आयतन ज्ञात कीजिए।

- Ans  1. 7644 cm<sup>3</sup>  
 2. 7238 cm<sup>3</sup>  
 3. 7546 cm<sup>3</sup>  
 4. 7854 cm<sup>3</sup>

Question ID : 264330103644  
Option 1 ID : 264330406884  
Option 2 ID : 264330406882  
Option 3 ID : 264330406881  
Option 4 ID : 264330406883  
Status : Answered  
Chosen Option : 3



Q.17 चार अंकों की वह बड़ी से बड़ी संख्या ज्ञात कीजिए, जो 15, 25, 40 और 75 से विभाज्य है।

- Ans
- 1. 9200
  - 2. 9500
  - 3. 9600
  - 4. 9000

Question ID : 264330145051  
Option 1 ID : 264330568460  
Option 2 ID : 264330568462  
Option 3 ID : 264330568461  
Option 4 ID : 264330568459  
Status : Answered  
Chosen Option : 3

Q.18 दो संख्याओं का महत्तम समापवर्तक (HCF) और लघुत्तम समापवर्त्य (LCM) क्रमशः 9 और 126 है। यदि संख्याओं का अनुपात 2 : 7 है तो बड़ी संख्या ज्ञात कीजिए।

- Ans
- 1. 21
  - 2. 63
  - 3. 77
  - 4. 42

Question ID : 26433063284  
Option 1 ID : 264330247788  
Option 2 ID : 264330247789  
Option 3 ID : 264330247791  
Option 4 ID : 264330247790  
Status : Answered  
Chosen Option : 2

Q.19 किसी वृत्त की जीवा, उसकी त्रिज्या के बराबर है। वृत्त के लघु चाप और दीर्घ चाप पर इस जीवा द्वारा अंतरित कोणों के बीच का अंतर ज्ञात कीजिए।

- Ans
- 1.  $120^\circ$
  - 2.  $60^\circ$
  - 3.  $30^\circ$
  - 4.  $150^\circ$

Question ID : 264330165539  
Option 1 ID : 264330649236  
Option 2 ID : 264330649237  
Option 3 ID : 264330649235  
Option 4 ID : 264330649238  
Status : Answered  
Chosen Option : 3

Q.20 दी गई तालिका का अध्ययन करें और नीचे दिए गए प्रश्न का उत्तर दें।

बच्चों की संख्या	परिवारों की संख्या
0	4
1	22
2	15
3	6
4	2

प्रति परिवार बच्चों की औसत संख्या क्या है?

- Ans
- 1. 1.72
  - 2. 1.47
  - 3. 1.23
  - 4. 1.59

Question ID : 264330145023

Option 1 ID : 264330568350

Option 2 ID : 264330568348

Option 3 ID : 264330568347

Option 4 ID : 264330568349

Status : Answered

Chosen Option : 4

Q.21 धातु की एक गोलाकार गेंद की त्रिज्या 3 cm है। यदि धातु की इस गेंद को पिघलाया जाता है, और इसकी त्रिज्या के आधे के बराबर त्रिज्या वाले x अर्धगोलों के रूप में पुनः ढाला जाता है, तो x का मान ज्ञात कीजिए।

- Ans
- 1. 14
  - 2. 16
  - 3. 15
  - 4. 13

Question ID : 264330103636

Option 1 ID : 264330406850

Option 2 ID : 264330406852

Option 3 ID : 264330406851

Option 4 ID : 264330406849

Status : Marked For Review

Chosen Option : 2

Q.22 दी गई तालिका का अध्ययन करें, और नीचे दिए गए प्रश्न का उत्तर दें।  
निम्न तालिका शैक्षणिक वर्ष 2022-2023 के दौरान भारत के विभिन्न शहरों A, B, C, D और E में विभिन्न पाठ्यक्रमों में विद्यार्थियों की संख्या को दर्शाती है।

शहर	एमबीए	विज्ञान	इंजीनियरिंग	आयुर्विज्ञान	एमसीए	कुल
A	1200	2560	4520	1100	960	10340
B	1350	2650	5100	1050	850	11000
C	1250	2640	4580	1120	750	10340
D	1960	1250	3500	1850	1600	10160
E	1200	2100	3500	960	540	8300

शैक्षणिक वर्ष 2022-2023 के दौरान किस शहर में विद्यार्थियों की संख्या सर्वाधिक थी?

- Ans
- 1. D
  - 2. A
  - 3. C
  - 4. B

Question ID : 264330157714  
Option 1 ID : 264330618218  
Option 2 ID : 264330618215  
Option 3 ID : 264330618217  
Option 4 ID : 264330618216  
Status : Answered  
Chosen Option : 4

Q.23 पाँच अंकों की वह छोटी से छोटी संख्या कौन-सी है, जो 9, 12, 15, 25 और 27 से पूर्णतः विभाज्य है?

- Ans
- 1. 10800
  - 2. 10700
  - 3. 10250
  - 4. 10600

Question ID : 26433064889  
Option 1 ID : 264330254149  
Option 2 ID : 264330254150  
Option 3 ID : 264330254151  
Option 4 ID : 264330254148  
Status : Answered  
Chosen Option : 1

Q.24 एक दुकानदार चीनी को ₹40/kg की दर से बेचता है, जिसे उसने ₹36/kg की दर से खरीदा था। उसकी तौल मशीन खराब है, और बेचते समय उसका वजन मात्र 800 gm तौलती है। उसका प्रतिशत लाभ (2 दशमलव स्थानों तक) \_\_\_\_\_ है।

- Ans
- 1. 38.89%
  - 2. 37.58%
  - 3. 40%
  - 4. 39.28%

Question ID : 26433099045  
Option 1 ID : 264330388819  
Option 2 ID : 264330388820  
Option 3 ID : 264330388817  
Option 4 ID : 264330388818  
Status : Answered  
Chosen Option : 1

Q.25 720 विद्यार्थियों वाले एक स्कूल में, लड़कों और लड़कियों का अनुपात 3 : 5 है। यदि 18 नई लड़कियों को स्कूल में प्रवेश दिया जाता है, तो कितने नए लड़कों को स्कूल में प्रवेश दिया जाना चाहिए, जिससे लड़कों और लड़कियों का अनुपात बदलकर 2 : 3 हो जाए।

- Ans  1. 38  
 2. 42  
 3. 50  
 4. 44

Question ID : 264330145047  
Option 1 ID : 264330568444  
Option 2 ID : 264330568443  
Option 3 ID : 264330568446  
Option 4 ID : 264330568445  
Status : Answered  
Chosen Option : 2

Q.26 1200 m की दौड़ में, राकेश 36 सेकंड में, और राजेश 40 सेकंड में अंतिम बिंदु तक पहुंचता है। राकेश, राजेश को कितनी दूरी से हराता है?

- Ans  1. 130 m  
 2. 120 m  
 3. 150 m  
 4. 140 m

Question ID : 264330145065  
Option 1 ID : 264330568516  
Option 2 ID : 264330568515  
Option 3 ID : 264330568518  
Option 4 ID : 264330568517  
Status : Answered  
Chosen Option : 2

Q.27 22, 66 और 11 का चतुर्थानुपाती (fourth proportional) ज्ञात कीजिए।

- Ans  1. 17  
 2. 23  
 3. 39  
 4. 33

Question ID : 264330104221  
Option 1 ID : 264330409187  
Option 2 ID : 264330409186  
Option 3 ID : 264330409185  
Option 4 ID : 264330409188  
Status : Answered  
Chosen Option : 4

Q.28  $\Delta PQR$ , Q पर इस प्रकार समकोण है, कि  $PQ=(x-y)$ ,  $QR=x$  और  $PR=(x+y)$  हैं। S, QR पर इस प्रकार स्थित एक बिंदु है कि  $QS=PQ$  है। x और y के किसी भी मान के लिए अनुपात QS:SR क्या होगा?

- Ans
- 1. 1 : 2
  - 2. 1 : 3
  - 3. 3 : 1
  - 4. 2 : 1

Question ID : 264330158286  
Option 1 ID : 264330620506  
Option 2 ID : 264330620504  
Option 3 ID : 264330620503  
Option 4 ID : 264330620505  
Status : Answered  
Chosen Option : 3

Q.29 A, B और C एक कार्य क्रमशः 11 दिन, 20 दिन और 55 दिन में पूरा कर सकते हैं। यदि B से शुरू करते हुए, एक-एक दिन छोड़कर बारी बारी से B और C द्वारा A की सहायता की जाती है, तो कार्य कितना जल्दी पूरा किया जा सकता है?

- Ans
- 1. 8 दिन
  - 2.  $9\frac{1}{2}$  दिन
  - 3. 9 दिन
  - 4.  $8\frac{1}{2}$  दिन

Question ID : 26433082415  
Option 1 ID : 264330323493  
Option 2 ID : 264330323496  
Option 3 ID : 264330323495  
Option 4 ID : 264330323494  
Status : Answered  
Chosen Option : 2

Q.30 6 cm व्यास के गोलाकार आकृति वाले कुछ बर्फ के टुकड़ों को एक बेलनाकार कंटेनर में डाला जाता है, कंटेनर में कुछ जूस भरा हुआ है, और बर्फ के टुकड़े इसमें पूरी तरह से डूब जाते हैं। यदि कंटेनर का व्यास 18 cm है, और जूस का स्तर 40 cm बढ़ जाता है, तो कंटेनर में कितने बर्फ के टुकड़े डाले गए हैं?

- Ans
- 1. 95
  - 2. 85
  - 3. 80
  - 4. 90

Question ID : 264330145119  
Option 1 ID : 264330568734  
Option 2 ID : 264330568733  
Option 3 ID : 264330568731  
Option 4 ID : 264330568732  
Status : Answered  
Chosen Option : 4

Q.31 यदि  $\frac{2 \sin A - \cos A}{\sin A + \cos A} = 1$  है, तो  $\cot A$  का मान क्या होगा?

- Ans
- 1.  $\frac{1}{3}$
  - 2. 1
  - 3.  $\frac{1}{2}$
  - 4. 2

Question ID : 264330157750  
Option 1 ID : 264330618362  
Option 2 ID : 264330618359  
Option 3 ID : 264330618361  
Option 4 ID : 264330618360  
Status : Answered  
Chosen Option : 3

Q.32 यदि एक शंकु की तिर्यक ऊंचाई 29 cm और ऊंचाई 20 cm है, तो इसके संपूर्ण पृष्ठीय क्षेत्रफल और आयतन के परिमाणों का अनुपात ज्ञात कीजिए।

- Ans
- 1. 3 : 14
  - 2. 5 : 14
  - 3. 3 : 7
  - 4. 7 : 15

Question ID : 264330145106  
Option 1 ID : 264330568679  
Option 2 ID : 264330568682  
Option 3 ID : 264330568681  
Option 4 ID : 264330568680  
Status : Answered  
Chosen Option : 2

Q.33 राकेश 50 संकाय सदस्यों वाले एक कोचिंग संस्थान को संचालित करता है। 35 संकाय सदस्यों का औसत मासिक वेतन ₹37,500 है। यदि सभी 50 संकाय सदस्यों का औसत मासिक वेतन ₹30,000 पाया गया हो, तो अन्य 15 संकाय सदस्यों का औसत मासिक वेतन (₹में) कितना होगा?

- Ans
- 1. 12,500
  - 2. 13,000
  - 3. 13,500
  - 4. 12,000

Question ID : 264330165667  
Option 1 ID : 264330649748  
Option 2 ID : 264330649749  
Option 3 ID : 264330649750  
Option 4 ID : 264330649747  
Status : Answered  
Chosen Option : 1

Q.34 दी गई तालिका का अध्ययन कीजिए और नीचे दिए गए प्रश्न का उत्तर दीजिए।

तालिका तीन वर्षों के दौरान तीन संगठनों में कर्मचारियों की संख्या दर्शाती है।

संगठन \ वर्ष	2018	2019	2020
P	75	69	85
Q	96	81	74
R	85	63	90

2019 में संगठन P और R में एकसाथ मिलाकर कर्मचारियों की कुल संख्या और 2020 में संगठन Q और R में एकसाथ मिलाकर कर्मचारियों की कुल संख्या के बीच क्रमशः अनुपात क्या है?

- Ans
- 1. 41 : 31
  - 2. 33 : 23
  - 3. 33 : 41
  - 4. 23 : 41

Question ID : 264330158264  
Option 1 ID : 264330620417  
Option 2 ID : 264330620416  
Option 3 ID : 264330620418  
Option 4 ID : 264330620415  
Status : Answered  
Chosen Option : 3

Q.35 मुंबई की एक तेज़ लोकल 150 km की यात्रा के लिए एक धीमी लोकल की तुलना में 45 मिनट कम समय लेती है। यदि तेज़ लोकल की चाल, धीमी लोकल की चाल से 10 km/h अधिक है, तो धीमी लोकल ट्रेन की चाल (km/h में) ज्ञात करें।

- Ans
- 1. 40
  - 2. 30
  - 3. 35
  - 4. 45

Question ID : 264330103988  
Option 1 ID : 264330408255  
Option 2 ID : 264330408253  
Option 3 ID : 264330408254  
Option 4 ID : 264330408256  
Status : Answered  
Chosen Option : 1

Q.36 यदि  $\cot^2\theta = 1 - e^2$  है, तो  $\operatorname{cosec}\theta + \cot^3\theta \sec\theta$  का मान \_\_\_\_\_ है।

- Ans
- ✓ 1.  $(2 - e^2)^{\frac{3}{2}}$
  - ✗ 2.  $(1 - e^2)^{\frac{3}{2}}$
  - ✗ 3.  $(1 - e^2)$
  - ✗ 4.  $(2 - e^2)^{\frac{1}{2}}$

Question ID : 264330145133

Option 1 ID : 264330568788

Option 2 ID : 264330568787

Option 3 ID : 264330568790

Option 4 ID : 264330568789

Status : Answered

Chosen Option : 1

Q.37 अंकिता ने तीन खिलौने बेचे। पहला खिलौना 25% के लाभ पर ₹1,500 में बेचा गया; दूसरा खिलौना 50% की हानि पर ₹2,800 में बेचा गया, और तीसरा खिलौना 25% के लाभ पर ₹3,500 में बेचा गया। उसका कुल प्रतिशत लाभ या हानि ज्ञात कीजिए।

- Ans
- ✗ 1. 15.25% हानि
  - ✗ 2. 18.75% लाभ
  - ✗ 3. 15.25% लाभ
  - ✓ 4. 18.75% हानि

Question ID : 264330131457

Option 1 ID : 264330514932

Option 2 ID : 264330514933

Option 3 ID : 264330514931

Option 4 ID : 264330514934

Status : Answered

Chosen Option : 4

Q.38 8 cm, 9 cm और 12 cm भुजाओं वाले  $\triangle ABC$  में, सबसे बड़े कोण का कोण समद्विभाजक सम्मुख भुजाओं को दो खंडों में विभाजित करता है। छोटे खंड की लंबाई कितनी होगी?

- Ans
- ✗ 1.  $4\frac{11}{17}$  cm
  - ✗ 2.  $3\frac{9}{17}$  cm
  - ✓ 3.  $5\frac{11}{17}$  cm
  - ✗ 4.  $6\frac{13}{17}$  cm

Question ID : 264330170152

Option 1 ID : 264330667286

Option 2 ID : 264330667285

Option 3 ID : 264330667283

Option 4 ID : 264330667284

Status : Answered

Chosen Option : 3



Q.39 यदि अरुण किसी कार्य का  $\frac{2}{3}$  भाग 12 दिनों में पूरा कर सकता है, तो वह उसी कार्य का  $\frac{1}{6}$  भाग कितने दिनों में पूरा करेगा?

- Ans
- 1. 5
  - 2. 4
  - 3. 3
  - 4. 2

Question ID : 264330101377  
Option 1 ID : 264330398054  
Option 2 ID : 264330398055  
Option 3 ID : 264330398056  
Option 4 ID : 264330398053  
Status : Answered  
Chosen Option : 3

Q.40 यदि रवि की आय का 30%, सुरेश की आय के 40% के बराबर है, तो रवि की आय का 50%, सुरेश की आय के कितने प्रतिशत के बराबर होगा?

- Ans
- 1.  $66\frac{2}{3}\%$
  - 2.  $66\frac{1}{3}\%$
  - 3.  $33\frac{1}{3}\%$
  - 4.  $33\frac{2}{3}\%$

Question ID : 264330103394  
Option 1 ID : 264330405881  
Option 2 ID : 264330405882  
Option 3 ID : 264330405883  
Option 4 ID : 264330405884  
Status : Answered  
Chosen Option : 3

KD JOB UPDATES

Q.41 निम्न तालिका किसी कंपनी द्वारा पिछले कुछ वर्षों में बेची गई विभिन्न प्रकार की बैटरियों की संख्या प्रदान करती है (संख्या सैकड़ा में)।

वर्ष/ बैटरी का प्रकार	7AH	32AH	35AH	55AH
2018	20	30	40	50
2019	40	35	45	45
2020	50	40	40	40
2021	40	50	50	45
2022	45	45	35	55

2021 और 2022 में बेची गई 7AH बैटरियों की संख्या में कितना अंतर है?

- Ans
- 1. 700
  - 2. 300
  - 3. 200
  - 4. 500

Question ID : 264330167252

Option 1 ID : 264330656006

Option 2 ID : 264330656004

Option 3 ID : 264330656003

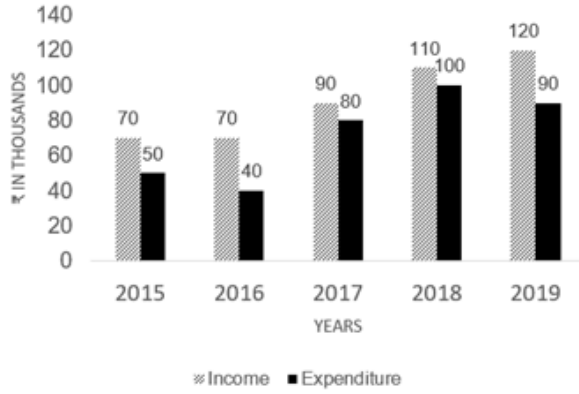
Option 4 ID : 264330656005

Status : Answered

Chosen Option : 4

Q.42 दिया गया ग्राफ एक परिवार की आय (income) और व्यय (Expenditure) को दर्शाता है।

दिए गए ग्राफ का अध्ययन कीजिए, और निम्नलिखित प्रश्न का उत्तर दीजिए।



2017 से 2018 तक परिवार का व्यय \_\_\_\_\_ बढ़ गया।

- Ans
- 1. 25%
  - 2. 20%
  - 3. 11%
  - 4. 22%

Question ID : 264330165431

Option 1 ID : 264330648803

Option 2 ID : 264330648806

Option 3 ID : 264330648805

Option 4 ID : 264330648804

Status : Answered

Chosen Option : 1

Q.43 दो संख्याओं का लघुत्तम समापवर्त्य (LCM), उनके महत्तम समापवर्तक (HCF) का पांच गुना है। यदि दोनों संख्याओं का गुणनफल 20480 है, तो उनका महत्तम समापवर्तक (HCF) और लघुत्तम समापवर्त्य (LCM) क्रमशः ज्ञात कीजिए।

- Ans
- 1. 48 और 240
  - 2. 64 और 320
  - 3. 46 और 230
  - 4. 56 और 280

Question ID : 26433065040

Option 1 ID : 264330254754

Option 2 ID : 264330254752

Option 3 ID : 264330254753

Option 4 ID : 264330254755

Status : Answered

Chosen Option : 2

Q.44 A और B समान रूप से कार्यकुशल हैं, और प्रत्येक अकेले किसी कार्य को 36 दिन में पूरा कर सकता है, यदि किसी ने कोई अवकाश न लिया हो। A और B ने इस कार्य पर एकसाथ मिलकर कार्य करना शुरू किया, लेकिन A ने हर पांच दिन कार्य करने के बाद एक दिन का अवकाश लिया, जबकि B ने हर सात दिन कार्य करने के बाद एक दिन का अवकाश लिया। यदि दोनों ने 1 जुलाई 2021 को कार्य शुरू किया था, तो कार्य किस तिथि को पूरा हुआ?

- Ans
- 1. 19 जुलाई 2021
  - 2. 20 जुलाई 2021
  - 3. 22 जुलाई 2021
  - 4. 21 जुलाई 2021

Question ID : 264330114532

Option 1 ID : 264330450215

Option 2 ID : 264330450213

Option 3 ID : 264330450216

Option 4 ID : 264330450214

Status : Answered

Chosen Option : 1

Q.45 एक स्टोर में, अरुण के पास मोबाइल फोन खरीदने के लिए दो विकल्प हैं, या तो वह Rs.2,500 की पूरी राशि का भुगतान कर सकता है, या वह एक किश्त योजना यानी Rs.520 की डाउन पेमेंट, और चार समान किश्तों में मोबाइल खरीद सकता है, जिसमें 25% वार्षिक की दर से साधारण ब्याज वसूल किया जा रहा है। अरुण किश्त योजना पर एक मोबाइल फोन खरीदता है। अरुण की मासिक किश्त कितनी है?

- Ans
- 1. Rs.510
  - 2. Rs.550
  - 3. Rs.520
  - 4. Rs.530

Question ID : 26433063339

Option 1 ID : 264330248011

Option 2 ID : 264330248009

Option 3 ID : 264330248010

Option 4 ID : 264330248008

Status : Not Answered

Chosen Option : --

Q.46 32 cm व्यास वाले एक ठोस धातु के गोले से बनाई जा सकने वाली ऐसी गेंदों की संख्या ज्ञात कीजिए, जिनमें से प्रत्येक का व्यास 4 cm हो।

- Ans
- 1. 1024
  - 2. 64
  - 3. 256
  - 4. 512

Question ID : 264330165654

Option 1 ID : 264330649698

Option 2 ID : 264330649695

Option 3 ID : 264330649697

Option 4 ID : 264330649696

Status : Answered

Chosen Option : 4

Q.47 प्रथम छह अभाज्य संख्याओं का औसत ज्ञात करें।

- Ans
- ✗ 1.  $6\frac{1}{3}$
  - ✗ 2.  $6\frac{2}{3}$
  - ✓ 3.  $6\frac{5}{6}$
  - ✗ 4.  $6\frac{1}{6}$

Question ID : 264330104485

Option 1 ID : 264330410242

Option 2 ID : 264330410244

Option 3 ID : 264330410243

Option 4 ID : 264330410241

Status : Answered

Chosen Option : 3

Q.48 125, 250 और 750 का महत्तम समापवर्तक (HCF) ज्ञात कीजिए।

- Ans
- ✓ 1. 125
  - ✗ 2. 75
  - ✗ 3. 25
  - ✗ 4. 50

Question ID : 26433065033

Option 1 ID : 264330254727

Option 2 ID : 264330254726

Option 3 ID : 264330254724

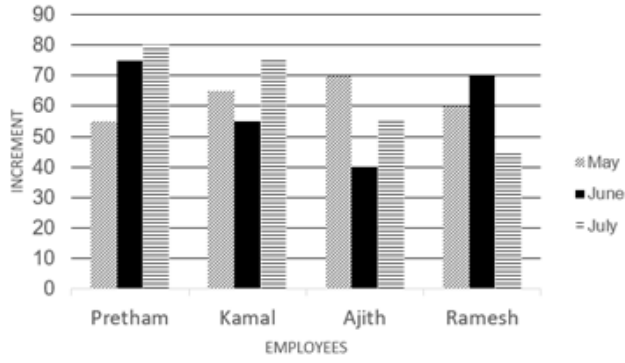
Option 4 ID : 264330254725

Status : Answered

Chosen Option : 1

KD JOB UPDATES

Q.49 दिए गए बार ग्राफ का ध्यानपूर्वक अध्ययन कीजिए, और निम्नलिखित प्रश्न का उत्तर दीजिए। चार कर्मचारियों की मई, जून और जुलाई महीनों में हुई वेतन-वृद्धि (₹में)।



Increment = वेतन-वृद्धि

Employee = कर्मचारी

May = मई

June = जून

July = जुलाई

तीन महीनों में कमल की कुल औसत वेतन-वृद्धि कितनी है?

- Ans
- 1. ₹75
  - 2. ₹70
  - 3. ₹65
  - 4. ₹60

Question ID : 264330165427

Option 1 ID : 264330648789

Option 2 ID : 264330648790

Option 3 ID : 264330648787

Option 4 ID : 264330648788

Status : Not Answered

Chosen Option : --

Q.50 निम्न तालिका वर्ष 2022 में 4 अलग-अलग महीनों में 5 दुकानों द्वारा बेचे गए स्कूटरों की संख्या दर्शाती है।

माह/ दुकान	A	B	C	D	E
जनवरी	212	168	173	182	190
फरवरी	312	250	212	175	182
मार्च	280	275	265	255	245
अप्रैल	270	280	290	305	275

जनवरी में दुकान A और B द्वारा कुल मिलाकर बेचे गए स्कूटरों की कुल संख्या और मार्च में दुकान D और E द्वारा कुल मिलाकर बेचे गए स्कूटरों की कुल संख्या के बीच का अनुपात ज्ञात करें?

- Ans
- 1. 18 : 23
  - 2. 17 : 25
  - 3. 19 : 25
  - 4. 20 : 23

Question ID : 264330167250  
Option 1 ID : 264330655997  
Option 2 ID : 264330655998  
Option 3 ID : 264330655995  
Option 4 ID : 264330655996  
Status : Not Answered  
Chosen Option : --

Section : English Comprehension

Q.1 Select the most appropriate ANTONYM of the underlined word in the given sentence.

All members of the association adhere to a strict code of practice.

- Ans
- 1. observe
  - 2. comply
  - 3. cling
  - 4. flout

Question ID : 264330117116  
Option 1 ID : 264330460534  
Option 2 ID : 264330460533  
Option 3 ID : 264330460536  
Option 4 ID : 264330460535  
Status : Answered  
Chosen Option : 1

**Q.2** Some words in the following sentences have been underlined and given as options. Select the option that contains a spelling error.

Why is everyone so dressed up? What's the occaseon? Is it a wedding?

- Ans
- 1. wedding
  - 2. occaseon
  - 3. everyone
  - 4. dressed

Question ID : 264330121269  
Option 1 ID : 264330475282  
Option 2 ID : 264330475281  
Option 3 ID : 264330475279  
Option 4 ID : 264330475280  
Status : Answered  
Chosen Option : 2

**Q.3** Select the most appropriate ANTONYM for the highlighted word. She has a penchant for art and craft.

- Ans
- 1. fear
  - 2. joy
  - 3. anxiety
  - 4. hatred

Question ID : 264330120739  
Option 1 ID : 264330473174  
Option 2 ID : 264330473172  
Option 3 ID : 264330473173  
Option 4 ID : 264330473171  
Status : Answered  
Chosen Option : 4

**Q.4** Select the most appropriate option that can substitute the underlined segment in the given sentence.

I like all games instead of cricket.

- Ans
- 1. except
  - 2. exclude
  - 3. object
  - 4. rather

Question ID : 26433098974  
Option 1 ID : 264330388547  
Option 2 ID : 264330388545  
Option 3 ID : 264330388546  
Option 4 ID : 264330388548  
Status : Answered  
Chosen Option : 1



**Q.5** Select the correct spelling of the incorrectly spelt word.

He had a round face made jovial by bright, almost boyish eyes and eyebrows  
ridiculously small for a man his size.

- Ans
- 1. jouvial
  - 2. ridiculously
  - 3. ridicolusly
  - 4. juvial

Question ID : 26433088981  
Option 1 ID : 264330349462  
Option 2 ID : 264330349461  
Option 3 ID : 264330349463  
Option 4 ID : 264330349464  
Status : Answered  
Chosen Option : 1

**Q.6** Select the most appropriate ANTONYM of the given word.  
Superb

- Ans
- 1. Infallible
  - 2. Incurrigible
  - 3. Splendid
  - 4. Inferior

Question ID : 264330164275  
Option 1 ID : 264330644325  
Option 2 ID : 264330644324  
Option 3 ID : 264330644323  
Option 4 ID : 264330644326  
Status : Answered  
Chosen Option : 3

**Q.7** Select the most appropriate ANTONYM of the given word.

Redemption

- Ans
- 1. Blasphemy
  - 2. Salvation
  - 3. Corrugation
  - 4. Conjunction

Question ID : 264330163398  
Option 1 ID : 264330640872  
Option 2 ID : 264330640871  
Option 3 ID : 264330640873  
Option 4 ID : 264330640874  
Status : Answered  
Chosen Option : 4

**Q.8** Select the most appropriate option that can substitute the underlined segment in the given sentence. If there is no need to substitute it, select 'No substitution required'.  
It was a quite afternoon, so Dan decided to take a nap.

- Ans**
- 1. an quiet
  - 2. No substitution required
  - 3. an quite
  - 4. a quiet

Question ID : 26433070770  
Option 1 ID : 264330277538  
Option 2 ID : 264330277539  
Option 3 ID : 264330277536  
Option 4 ID : 264330277537  
Status : Answered  
Chosen Option : 1

**Q.9** Select the most appropriate phrasal verb to fill in the blank.  
It took seven years for Harish to \_\_\_\_\_ his migraine.

- Ans**
- 1. shake down
  - 2. shake out
  - 3. shake off
  - 4. shake up

Question ID : 26433084920  
Option 1 ID : 264330333403  
Option 2 ID : 264330333401  
Option 3 ID : 264330333402  
Option 4 ID : 264330333404  
Status : Not Answered  
Chosen Option : --

**Q.10** Select the most appropriate meaning of the given idiom.  
Spill the beans

- Ans**
- 1. To make anything visible
  - 2. To ruin someone's plan
  - 3. To talk randomly
  - 4. To reveal secret information

Question ID : 264330117235  
Option 1 ID : 264330460998  
Option 2 ID : 264330460999  
Option 3 ID : 264330460997  
Option 4 ID : 264330461000  
Status : Answered  
Chosen Option : 4

**Q.11** Select the most appropriate option that can substitute the underlined segment in the given sentence.

The team leader tried to remain positive or optimistic in the situation, even though they were facing tough competition and limited resources.

- Ans**
- 1. to put a brave face on
  - 2. to put on a strong exterior
  - 3. to put a strong hand forward
  - 4. to put a strong desire in front of

Question ID : 264330139271

Option 1 ID : 264330545602

Option 2 ID : 264330545601

Option 3 ID : 264330545600

Option 4 ID : 264330545599

Status : Marked For Review

Chosen Option : 1

**Q.12** Select the sentence that has a spelling error.

A- One has to understand the rudimentary fact that intelligence and intellect are at two opposite poles.

B- An intellectual person may have all the knowledge of the world but won't know how to give it a shape.

C- Knowledge will plague the individual if he does not have the intelligence to express it.

D- Without basic intelligence, an individual is trapped within himself manifesting conflicts and ignorance in the external world.

- Ans**
- 1. An intellectual person may have all the knowledge of the world but won't know how to give it a shape.
  - 2. Knowledge will plague the individual if he does not have the intelligence to express it.
  - 3. One has to understand the rudimentary fact that intelligence and intellect are at two opposite poles.
  - 4. Without basic intelligence, an individual is trapped within himself, manifesting conflicts and ignorance in the external world.

Question ID : 264330141562

Option 1 ID : 264330554584

Option 2 ID : 264330554585

Option 3 ID : 264330554583

Option 4 ID : 264330554586

Status : Answered

Chosen Option : 3

**Q.13** Select the most appropriate idiom for the underlined word segment.

He seems to be undecided about whether to move to another city for better prospects.

- Ans**
- 1. Counting down the days
  - 2. Sitting on the fence
  - 3. Running out of steam
  - 4. Bouncing off the walls

Question ID : 264330167999

Option 1 ID : 264330658887

Option 2 ID : 264330658889

Option 3 ID : 264330658890

Option 4 ID : 264330658888

Status : Answered

Chosen Option : 2

**Q.14** Select the most appropriate idiom to fill in the blank.  
I have all the technical and communication skills necessary to crack any interview; it will be \_\_\_\_\_.

- Ans
- 1. a storm in a tea cup
  - 2. a chip on my shoulder
  - 3. a hard nut to crack
  - 4. a piece of cake for me

Question ID : 264330134220  
Option 1 ID : 264330525878  
Option 2 ID : 264330525876  
Option 3 ID : 264330525875  
Option 4 ID : 264330525877  
Status : Answered  
Chosen Option : 4

**Q.15** Select the most appropriate meaning of the highlighted idiom in the given sentence.

She said she liked my hair, but it turned out to be a left handed compliment.

- Ans
- 1. A joke
  - 2. A praise
  - 3. A flattery
  - 4. An insult

Question ID : 264330108898  
Option 1 ID : 264330427870  
Option 2 ID : 264330427869  
Option 3 ID : 264330427871  
Option 4 ID : 264330427872  
Status : Marked For Review  
Chosen Option : 4

**Q.16** The following sentence has been divided into parts. One of them may contain an error.  
Select the part that contains the error from the given options. If you don't find any error, mark 'No error' as your answer.

(1) He could / (2) be pass his exams / (3) if he studied harder. / (4) No error

- Ans
- 1. 4
  - 2. 2
  - 3. 1
  - 4. 3

Question ID : 264330164351  
Option 1 ID : 264330644618  
Option 2 ID : 264330644616  
Option 3 ID : 264330644615  
Option 4 ID : 264330644617  
Status : Marked For Review  
Chosen Option : 4

Q.17 Replace the underlined segment with the most appropriate idiom/phrase from the following options.

This is the critical point of the issue. One should always be focused on it.

- Ans
- 1. The crux of the matter
  - 2. Don't cry over spilt milk
  - 3. A black sheep
  - 4. Chip off the old block

Question ID : 26433091834  
Option 1 ID : 264330360676  
Option 2 ID : 264330360674  
Option 3 ID : 264330360675  
Option 4 ID : 264330360673  
Status : Answered  
Chosen Option : 1

Q.18 Select the option that will improve the underlined part of the given sentence.  
People say different things at different times.

- Ans
- 1. says delectable things at different times
  - 2. says whimsical things at different times
  - 3. should say fanciful things at different times
  - 4. say diverse things at different times

Question ID : 264330145289  
Option 1 ID : 264330569412  
Option 2 ID : 264330569411  
Option 3 ID : 264330569413  
Option 4 ID : 264330569414  
Status : Marked For Review  
Chosen Option : 4

Q.19 Select the correct spelling of the incorrectly spelt word.

They were more often abnoxious than not, impatient with me because my services had been essentially imposed upon them.

- Ans
- 1. obnoxious
  - 2. impatint
  - 3. servises
  - 4. essentialy

Question ID : 26433088984  
Option 1 ID : 264330349475  
Option 2 ID : 264330349473  
Option 3 ID : 264330349474  
Option 4 ID : 264330349476  
Status : Answered  
Chosen Option : 1

**Q.20** Select the most appropriate option that can substitute the underlined segment in the given sentence.

Health insurance are important today since anyone can face a medical emergency without warning.

- Ans**
- 1. was important
  - 2. will be important
  - 3. is important
  - 4. has been important

Question ID : 26433081324  
Option 1 ID : 264330319143  
Option 2 ID : 264330319141  
Option 3 ID : 264330319142  
Option 4 ID : 264330319144  
Status : Answered  
Chosen Option : 2

**Q.21** Select the option that can be used as a one-word substitute for the given group of words.

An act of exchanging information

- Ans**
- 1. Communication
  - 2. Touch
  - 3. Collaboration
  - 4. Hold

Question ID : 26433088440  
Option 1 ID : 264330347345  
Option 2 ID : 264330347347  
Option 3 ID : 264330347348  
Option 4 ID : 264330347346  
Status : Marked For Review  
Chosen Option : 1

**Q.22** Select the most appropriate option that can substitute the underlined segment in the given sentence.

The concert was filled with rapt teenage listeners.

- Ans**
- 1. truly energetic
  - 2. boldly dressed
  - 3. really fashionable
  - 4. fully attentive

Question ID : 26433099880  
Option 1 ID : 264330392110  
Option 2 ID : 264330392112  
Option 3 ID : 264330392109  
Option 4 ID : 264330392111  
Status : Answered  
Chosen Option : 4

**Q.23** Select the most appropriate **ANTONYM** of the given word.  
**Decline**

- Ans**  1. Demonstrate  
 2. Escape  
 3. Ascend  
 4. Traverse

Question ID : 26433099652  
Option 1 ID : 264330391213  
Option 2 ID : 264330391214  
Option 3 ID : 264330391216  
Option 4 ID : 264330391215  
Status : Answered  
Chosen Option : 3

**Q.24** Select the option that can be used as a one-word substitute for the given group of words.  
**To restrain or compel a person to do something by force.**

- Ans**  1. Casualty  
 2. Convoy  
 3. Coerce  
 4. Consensus

Question ID : 26433088803  
Option 1 ID : 264330348766  
Option 2 ID : 264330348765  
Option 3 ID : 264330348768  
Option 4 ID : 264330348767  
Status : Marked For Review  
Chosen Option : 2

**Q.25** Select the most appropriate meaning of the given idiom.

**Bite the bullet**

- Ans**  1. Decide to do the inevitable which you were avoiding  
 2. To bite something very hard  
 3. Decide to take the easier way out  
 4. Decide to do what is good

Question ID : 264330163380  
Option 1 ID : 264330640809  
Option 2 ID : 264330640807  
Option 3 ID : 264330640810  
Option 4 ID : 264330640808  
Status : Answered  
Chosen Option : 1

**Q.26** Select the word segment that substitutes (replaces) the bracketed word segment correctly and completes the sentence meaningfully:  
Unless you (do will not prepare) well you will not perform well.

- Ans
- 1. will prepare
  - 2. will do not prepare
  - 3. would not prepare
  - 4. prepare

Question ID : 26433088800  
Option 1 ID : 264330348755  
Option 2 ID : 264330348753  
Option 3 ID : 264330348756  
Option 4 ID : 264330348754  
Status : Answered  
Chosen Option : 4

**Q.27** Select the most appropriate ANTONYM of the given word.  
Magnificent

- Ans
- 1. Peaceful
  - 2. Quiet
  - 3. Modest
  - 4. Impressive

Question ID : 264330164171  
Option 1 ID : 264330643937  
Option 2 ID : 264330643938  
Option 3 ID : 264330643935  
Option 4 ID : 264330643936  
Status : Marked For Review  
Chosen Option : 3

**Q.28** Choose the most appropriate meaning of the underlined phrase.  
He was carried off his feet when he was declared to have won the prize.

- Ans
- 1. Became delirious
  - 2. Danced on his toes
  - 3. Was dizzy
  - 4. Was wild with excitement

Question ID : 264330137452  
Option 1 ID : 264330538434  
Option 2 ID : 264330538431  
Option 3 ID : 264330538433  
Option 4 ID : 264330538432  
Status : Answered  
Chosen Option : 3



**Q.29** Select the option that can be used as a one-word substitute for the given group of words.

Requiring exceptional skill or caution in performance or handling

- Ans  1. Sustainable  
 2. Tricky  
 3. Abstract  
 4. Blunt

Question ID : 26433088447  
Option 1 ID : 264330347375  
Option 2 ID : 264330347374  
Option 3 ID : 264330347373  
Option 4 ID : 264330347376  
Status : Marked For Review  
Chosen Option : 4

**Q.30** Select the most appropriate synonym of the given word.

Desolate

- Ans  1. Fortunate  
 2. Sturdy  
 3. Depressive  
 4. Hopeful

Question ID : 264330163331  
Option 1 ID : 264330640623  
Option 2 ID : 264330640626  
Option 3 ID : 264330640625  
Option 4 ID : 264330640624  
Status : Marked For Review  
Chosen Option : 3

**Q.31** Select the most appropriate meaning of the given idiom.

Spill the beans

- Ans  1. To be very expensive  
 2. Give away a secret  
 3. Sound familiar  
 4. Fail to make an impact

Question ID : 26433091830  
Option 1 ID : 264330360660  
Option 2 ID : 264330360658  
Option 3 ID : 264330360659  
Option 4 ID : 264330360657  
Status : Answered  
Chosen Option : 2

**Q.32** Select the most appropriate ANTONYM of the given word.  
Together

- Ans  1. Apart  
 2. United  
 3. Engulf  
 4. Freight

Question ID : 264330164274  
Option 1 ID : 264330644320  
Option 2 ID : 264330644319  
Option 3 ID : 264330644321  
Option 4 ID : 264330644322  
Status : Answered  
Chosen Option : 1

**Q.33** Select the most appropriate synonym of the underlined word.  
Improved rail transport is essential for business.

- Ans  1. Technical  
 2. Crucial  
 3. Trivial  
 4. Recommended

Question ID : 264330117332  
Option 1 ID : 264330461382  
Option 2 ID : 264330461383  
Option 3 ID : 264330461384  
Option 4 ID : 264330461381  
Status : Marked For Review  
Chosen Option : 2

**Q.34** Select the most appropriate option to fill in the blank.  
This is not \_\_\_\_\_ exhaustive list of words.

- Ans  1. No word required  
 2. an  
 3. a  
 4. many

Question ID : 264330145275  
Option 1 ID : 264330569358  
Option 2 ID : 264330569357  
Option 3 ID : 264330569356  
Option 4 ID : 264330569355  
Status : Answered  
Chosen Option : 2

**Q.35** Parts of the following sentence have been underlined and given as options. Select the option that contains an error.

Have they been work in that particular shop for several years?

- Ans
- 1. been
  - 2. work
  - 3. Have
  - 4. for

Question ID : 26433089373  
Option 1 ID : 264330350994  
Option 2 ID : 264330350995  
Option 3 ID : 264330350993  
Option 4 ID : 264330350996  
Status : Answered  
Chosen Option : 2

**Q.36** The following sentence has been split into four segments. Identify the segment that contains a grammatical error.

Roger went / to an United Kingdom / with his wife / to celebrate Christmas.

- Ans
- 1. to an United Kingdom
  - 2. Roger went
  - 3. with his wife
  - 4. to celebrate Christmas

Question ID : 264330120603  
Option 1 ID : 264330472652  
Option 2 ID : 264330472651  
Option 3 ID : 264330472653  
Option 4 ID : 264330472654  
Status : Answered  
Chosen Option : 1

**Q.37** Select the most appropriate option that can substitute the underlined word which has been incorrectly spelt.

They have begun to study in sepparate rooms.

- Ans
- 1. saperate
  - 2. separate
  - 3. seprate
  - 4. saparate

Question ID : 264330123043  
Option 1 ID : 264330482238  
Option 2 ID : 264330482236  
Option 3 ID : 264330482235  
Option 4 ID : 264330482237  
Status : Marked For Review  
Chosen Option : 2

**Q.38** Select the most appropriate ANTONYM of the given word.  
**Resolute**

- Ans  1. Steadfast  
 2. Brave  
 3. Wavering  
 4. Serious

Question ID : 26433098994  
Option 1 ID : 264330388617  
Option 2 ID : 264330388619  
Option 3 ID : 264330388618  
Option 4 ID : 264330388620  
Status : Answered  
Chosen Option : 3

**Q.39** The following sentence has been split into four segments. Identify the segment that contains a grammatical error.

I have a dog and a cow. / A dog is black / but the cow is / black and white.

- Ans  1. I have a dog and a cow  
 2. black and white  
 3. but the cow is  
 4. A dog is black

Question ID : 264330120602  
Option 1 ID : 264330472647  
Option 2 ID : 264330472650  
Option 3 ID : 264330472649  
Option 4 ID : 264330472648  
Status : Answered  
Chosen Option : 4

**Q.40** Select the most appropriate meaning of the underlined idiom that can be substituted in the following sentence.

The new routine will suit you to a T.

- Ans  1. a little bit  
 2. nicely  
 3. very poorly  
 4. exactly

Question ID : 26433094760  
Option 1 ID : 264330371876  
Option 2 ID : 264330371873  
Option 3 ID : 264330371875  
Option 4 ID : 264330371874  
Status : Answered  
Chosen Option : 4

**Comprehension:**

In the following passage some words have been deleted. Read the passage carefully and select the most appropriate option to fill in each blank.

Rabindranath Tagore founded a small school at Santiniketan in 1901 and Kala Bhavan, an art school, in 1919 which (1)\_\_\_\_\_ became a part of the Visvabharati University founded in 1921. Located in an (2)\_\_\_\_\_ village some distance from the city of Calcutta, Kala Bhavan presented an alternative methodology of art training, in which studio based practice was (3)\_\_\_\_\_ in favour of learning through observation and living as a part of nature. The natural surroundings with the (4)\_\_\_\_\_ of bare red earth dotted with trees, the colours of the changing seasons, the animals and birds (5)\_\_\_\_\_ inspiration to students.

**SubQuestion No : 41**

**Q.41** Select the most appropriate option to fill in blank no. 1.

- Ans
- 1. faster
  - 2. better
  - 3. slower
  - 4. later

Question ID : 264330164177

Option 1 ID : 264330643958

Option 2 ID : 264330643957

Option 3 ID : 264330643956

Option 4 ID : 264330643955

Status : Answered

Chosen Option : 4

**Comprehension:**

In the following passage some words have been deleted. Read the passage carefully and select the most appropriate option to fill in each blank.

Rabindranath Tagore founded a small school at Santiniketan in 1901 and Kala Bhavan, an art school, in 1919 which (1)\_\_\_\_\_ became a part of the Visvabharati University founded in 1921. Located in an (2)\_\_\_\_\_ village some distance from the city of Calcutta, Kala Bhavan presented an alternative methodology of art training, in which studio based practice was (3)\_\_\_\_\_ in favour of learning through observation and living as a part of nature. The natural surroundings with the (4)\_\_\_\_\_ of bare red earth dotted with trees, the colours of the changing seasons, the animals and birds (5)\_\_\_\_\_ inspiration to students.

**SubQuestion No : 42**

**Q.42** Select the most appropriate option to fill in blank no. 2.

- Ans
- 1. reliable
  - 2. normal
  - 3. idyllic
  - 4. magical

Question ID : 264330164178

Option 1 ID : 264330643962

Option 2 ID : 264330643959

Option 3 ID : 264330643961

Option 4 ID : 264330643960

Status : Marked For Review

Chosen Option : 3

**Comprehension:**

In the following passage some words have been deleted. Read the passage carefully and select the most appropriate option to fill in each blank.

Rabindranath Tagore founded a small school at Santiniketan in 1901 and Kala Bhavan, an art school, in 1919 which (1)\_\_\_\_\_ became a part of the Visvabharati University founded in 1921. Located in an (2)\_\_\_\_\_ village some distance from the city of Calcutta, Kala Bhavan presented an alternative methodology of art training, in which studio based practice was (3)\_\_\_\_\_ in favour of learning through observation and living as a part of nature. The natural surroundings with the (4)\_\_\_\_\_ of bare red earth dotted with trees, the colours of the changing seasons, the animals and birds (5)\_\_\_\_\_ inspiration to students.

**SubQuestion No : 43**

**Q.43** Select the most appropriate option to fill in blank no. 3.

- Ans
- 1. aspired
  - 2. accepted
  - 3. investigated
  - 4. rejected

Question ID : 264330164179

Option 1 ID : 264330643966

Option 2 ID : 264330643963

Option 3 ID : 264330643965

Option 4 ID : 264330643964

Status : Marked For Review

Chosen Option : 2

**Comprehension:**

In the following passage some words have been deleted. Read the passage carefully and select the most appropriate option to fill in each blank.

Rabindranath Tagore founded a small school at Santiniketan in 1901 and Kala Bhavan, an art school, in 1919 which (1)\_\_\_\_\_ became a part of the Visvabharati University founded in 1921. Located in an (2)\_\_\_\_\_ village some distance from the city of Calcutta, Kala Bhavan presented an alternative methodology of art training, in which studio based practice was (3)\_\_\_\_\_ in favour of learning through observation and living as a part of nature. The natural surroundings with the (4)\_\_\_\_\_ of bare red earth dotted with trees, the colours of the changing seasons, the animals and birds (5)\_\_\_\_\_ inspiration to students.

**SubQuestion No : 44**

**Q.44** Select the most appropriate option to fill in blank no. 4.

- Ans
- 1. murk
  - 2. haze
  - 3. vistas
  - 4. band

Question ID : 264330164180

Option 1 ID : 264330643969

Option 2 ID : 264330643968

Option 3 ID : 264330643970

Option 4 ID : 264330643967

Status : Not Answered

Chosen Option : --

**Comprehension:**

In the following passage some words have been deleted. Read the passage carefully and select the most appropriate option to fill in each blank.

Rabindranath Tagore founded a small school at Santiniketan in 1901 and Kala Bhavan, an art school, in 1919 which (1)\_\_\_\_\_ became a part of the Visvabharati University founded in 1921. Located in an (2)\_\_\_\_\_ village some distance from the city of Calcutta, Kala Bhavan presented an alternative methodology of art training, in which studio based practice was (3)\_\_\_\_\_ in favour of learning through observation and living as a part of nature. The natural surroundings with the (4)\_\_\_\_\_ of bare red earth dotted with trees, the colours of the changing seasons, the animals and birds (5)\_\_\_\_\_ inspiration to students.

**SubQuestion No : 45**

**Q.45** Select the most appropriate option to fill in blank no. 5.

- Ans  1. groomed  
 2. provided  
 3. refused  
 4. agreed

Question ID : 264330164181

Option 1 ID : 264330643972

Option 2 ID : 264330643973

Option 3 ID : 264330643971

Option 4 ID : 264330643974

Status : Marked For Review

Chosen Option : 2

**Comprehension:**

Read the given passage carefully and answer the questions that follow.

Mountains occupy about a quarter of the Earth's land, harbour most of its biodiversity hotspots and supply fresh water to an estimated half of humanity. Present on every continent, mountains include a multitude of ecosystems holding many unique species such as snow leopards and mountain gorillas. They are also home to great cultural diversity among people adapted to the challenges of mountain life. Their special traditions and breath-taking scenery attract ever-growing numbers of tourists.

Mountain regions are particularly sensitive to degradation from both human pressures and climate change. Steep slopes mean the clearing of forest for farming, settlements or infrastructure can cause serious soil erosion as well as the loss of habitat. Erosion and pollution harm the quality of water flowing downstream. Climate change threatens the quantity and timing of water supplies to farms, cities, industry and power stations. Fast-rising temperatures are forcing mountain species, ecosystems and the people that depend on them to adapt or migrate.

**SubQuestion No : 46**

**Q.46** What is the ANTONYM for the word 'diversity' from the passage?

- Ans  1. Block  
 2. Uniformity  
 3. Heritage  
 4. Dilemma

Question ID : 264330164691

Option 1 ID : 264330645930

Option 2 ID : 264330645927

Option 3 ID : 264330645928

Option 4 ID : 264330645929

Status : Marked For Review

Chosen Option : 3

**Comprehension:**

Read the given passage carefully and answer the questions that follow.

Mountains occupy about a quarter of the Earth's land, harbour most of its biodiversity hotspots and supply fresh water to an estimated half of humanity. Present on every continent, mountains include a multitude of ecosystems holding many unique species such as snow leopards and mountain gorillas. They are also home to great cultural diversity among people adapted to the challenges of mountain life. Their special traditions and breath-taking scenery attract ever-growing numbers of tourists.

Mountain regions are particularly sensitive to degradation from both human pressures and climate change. Steep slopes mean the clearing of forest for farming, settlements or infrastructure can cause serious soil erosion as well as the loss of habitat. Erosion and pollution harm the quality of water flowing downstream. Climate change threatens the quantity and timing of water supplies to farms, cities, industry and power stations. Fast-rising temperatures are forcing mountain species, ecosystems and the people that depend on them to adapt or migrate.

**SubQuestion No : 47**

**Q.47 What is the ANTONYM for the word 'migrate' from the passage?**

- Ans  1. Die  
 2. Stay  
 3. Assume  
 4. Run

Question ID : 264330164693

Option 1 ID : 264330645937

Option 2 ID : 264330645935

Option 3 ID : 264330645938

Option 4 ID : 264330645936

Status : Answered

Chosen Option : 2

**Comprehension:**

Read the given passage carefully and answer the questions that follow.

Mountains occupy about a quarter of the Earth's land, harbour most of its biodiversity hotspots and supply fresh water to an estimated half of humanity. Present on every continent, mountains include a multitude of ecosystems holding many unique species such as snow leopards and mountain gorillas. They are also home to great cultural diversity among people adapted to the challenges of mountain life. Their special traditions and breath-taking scenery attract ever-growing numbers of tourists.

Mountain regions are particularly sensitive to degradation from both human pressures and climate change. Steep slopes mean the clearing of forest for farming, settlements or infrastructure can cause serious soil erosion as well as the loss of habitat. Erosion and pollution harm the quality of water flowing downstream. Climate change threatens the quantity and timing of water supplies to farms, cities, industry and power stations. Fast-rising temperatures are forcing mountain species, ecosystems and the people that depend on them to adapt or migrate.

**SubQuestion No : 48**

**Q.48 Which of the following represents the structure of the passage?**

- Ans  1. Compare and contrast  
 2. Definition  
 3. Chronological  
 4. Cause-effect

Question ID : 264330164692

Option 1 ID : 264330645933

Option 2 ID : 264330645932

Option 3 ID : 264330645934

Option 4 ID : 264330645931

Status : Answered

Chosen Option : 4



**Comprehension:**

Read the given passage carefully and answer the questions that follow.

Mountains occupy about a quarter of the Earth's land, harbour most of its biodiversity hotspots and supply fresh water to an estimated half of humanity. Present on every continent, mountains include a multitude of ecosystems holding many unique species such as snow leopards and mountain gorillas. They are also home to great cultural diversity among people adapted to the challenges of mountain life. Their special traditions and breath-taking scenery attract ever-growing numbers of tourists.

Mountain regions are particularly sensitive to degradation from both human pressures and climate change. Steep slopes mean the clearing of forest for farming, settlements or infrastructure can cause serious soil erosion as well as the loss of habitat. Erosion and pollution harm the quality of water flowing downstream. Climate change threatens the quantity and timing of water supplies to farms, cities, industry and power stations. Fast-rising temperatures are forcing mountain species, ecosystems and the people that depend on them to adapt or migrate.

**SubQuestion No : 49**

**Q.49 Which of the following most accurately states the central idea of the passage?**

- Ans
- 1. Pollution
  - 2. Climate change
  - 3. Mountain ecosystem
  - 4. Biodegradation

Question ID : 264330164689

Option 1 ID : 264330645919

Option 2 ID : 264330645920

Option 3 ID : 264330645922

Option 4 ID : 264330645921

Status : Answered

Chosen Option : 3

**Comprehension:**

Read the given passage carefully and answer the questions that follow.

Mountains occupy about a quarter of the Earth's land, harbour most of its biodiversity hotspots and supply fresh water to an estimated half of humanity. Present on every continent, mountains include a multitude of ecosystems holding many unique species such as snow leopards and mountain gorillas. They are also home to great cultural diversity among people adapted to the challenges of mountain life. Their special traditions and breath-taking scenery attract ever-growing numbers of tourists.

Mountain regions are particularly sensitive to degradation from both human pressures and climate change. Steep slopes mean the clearing of forest for farming, settlements or infrastructure can cause serious soil erosion as well as the loss of habitat. Erosion and pollution harm the quality of water flowing downstream. Climate change threatens the quantity and timing of water supplies to farms, cities, industry and power stations. Fast-rising temperatures are forcing mountain species, ecosystems and the people that depend on them to adapt or migrate.

**SubQuestion No : 50**

**Q.50 Which is the best description of the tone of the passage?**

- Ans
- 1. Biased
  - 2. Humanistic
  - 3. Laudatory
  - 4. Emotional

Question ID : 264330164690

Option 1 ID : 264330645924

Option 2 ID : 264330645926

Option 3 ID : 264330645923

Option 4 ID : 264330645925

Status : Marked For Review

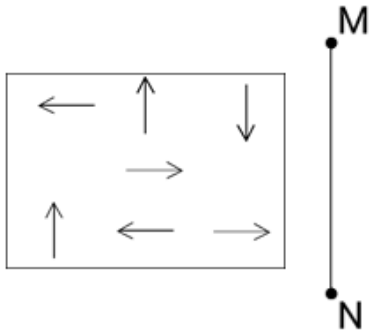
Chosen Option : 2

## Sub Inspector in Delhi Police and Central Armed Police Forces Examination 2023 Paper I

Roll Number	www.KD JOB UPDATES
Candidate Name	www.KD JOB UPDATES
Venue Name	Maa Kamla Digital Center
Exam Date	05/10/2023
Exam Time	9:00 AM - 11:00 AM
Subject	SICPO Paper I 2023

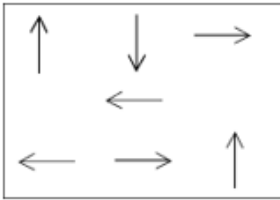
Section : General Intelligence and Reasoning

Q.1 यदि दर्पण को नीचे दिखाए गए अनुसार रेखा MN पर रखा गया हो, तो दी गई आकृति के सही दर्पण प्रतिबिम्ब का चयन कीजिए।

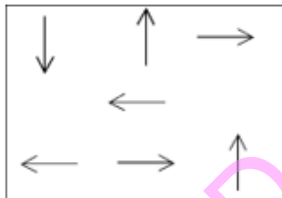


Ans

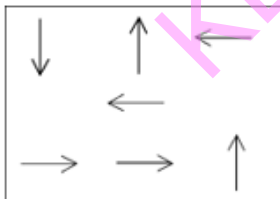
✗ 1.



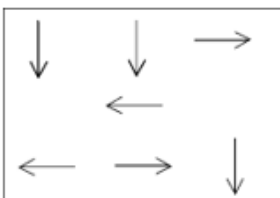
✓ 2.



✗ 3.



✗ 4.



Question ID : 264330170164

Option 1 ID : 264330667332

Option 2 ID : 264330667331

Option 3 ID : 264330667333

Option 4 ID : 264330667334

Status : Answered

Chosen Option : 2

Q.2 गणितीय चिह्नों के निम्नलिखित संयोजनों में से सही संयोजन का चयन कीजिए, जिसे निम्नलिखित समीकरण को संतुलित करने के लिए दिए गए कोष्ठक में भरा जा सकता है।

86 ○ 42 ○ 12 ○ 3 ○ 12 ○ 3 ○ 4

Ans ✓ 1. —, +, =, ×, +

✗ 2. —, +, ×, =, +, +

✗ 3. —, +, +, ×, =, +

✗ 4. +, —, +, ×, =, +

Question ID : 264330129642

Option 1 ID : 264330507936

Option 2 ID : 264330507934

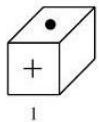
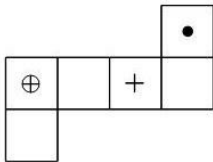
Option 3 ID : 264330507937

Option 4 ID : 264330507935

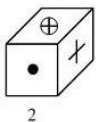
Status : Answered

Chosen Option : 1

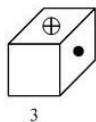
Q.3 यदि दी गई शीट को मोड़कर एक घन बनाया जाए, तो दी गई आकृतियों में से कौन-सी आकृति बनना संभव है? (एलिमेंट केवल फलकों को इंगित करने के लिए दिखाए गए हैं।)



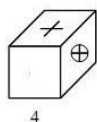
1



2



3



4

Ans ✓ 1. केवल 1 और 3

✗ 2. केवल 2 और 3

✗ 3. केवल 2 और 4

✗ 4. केवल 1 और 4

Question ID : 26433065677

Option 1 ID : 264330257270

Option 2 ID : 264330257271

Option 3 ID : 264330257269

Option 4 ID : 264330257268

Status : Answered

Chosen Option : 1

Q.4 P, Q के उत्तर में है। T, Q के पूर्व में है, और S, P के पूर्व में है। S, T के उत्तर-पूर्व में, और R के दक्षिण-पश्चिम में है। Q के सापेक्ष R की स्थिति क्या है? (सभी स्थितियों को ग्रिड पैटर्न में व्यवस्थित किया गया है)

Ans ✓ 1. उत्तर-पूर्व

✗ 2. पूर्व

✗ 3. दक्षिण

✗ 4. दक्षिण-पश्चिम

Question ID : 26433068362

Option 1 ID : 264330267962

Option 2 ID : 264330267961

Option 3 ID : 264330267960

Option 4 ID : 264330267963

Status : Answered

Chosen Option : 1

Q.5 उस विकल्प का चयन करें, जो तीसरे शब्द से उसी प्रकार संबंधित है, जिस प्रकार दूसरा शब्द पहले शब्द से संबंधित है।  
(शब्दों को अर्थपूर्ण शब्दों के रूप में माना जाना चाहिए, और इन्हें शब्द में अक्षरों की संख्या/व्यंजनों की संख्या/स्वरों की संख्या के आधार पर एक-दूसरे से संबद्ध नहीं किया जाना चाहिए।)  
पेडल (Pedal) : साइकिल (Bicycle) :: चप्पू (Oar) : ?

- Ans
- 1. कार (Car)
  - 2. डोंगी (Canoe)
  - 3. मोटरसाइकिल (Motorcycle)
  - 4. टेलीविजन (Television)

Question ID : 26433087294

Option 1 ID : 264330342813

Option 2 ID : 264330342814

Option 3 ID : 264330342815

Option 4 ID : 264330342816

Status : Answered

Chosen Option : 2

Q.6 विकल्पों में से कौन-सी संख्या दी गई श्रृंखला में प्रश्न चिह्न (?) को प्रतिस्थापित करेगी?

32, 32, 32, 34, ?, 106, 530

- Ans
- 1. 96
  - 2. 38
  - 3. 34
  - 4. 102

Question ID : 264330145336

Option 1 ID : 264330569599

Option 2 ID : 264330569600

Option 3 ID : 264330569601

Option 4 ID : 264330569602

Status : Answered

Chosen Option : 4

Q.7 यदि '+' का अर्थ '-' है, '-' का अर्थ '+' है, '÷' का अर्थ '×' है और '×' का अर्थ '÷' है, तो दिए गए समीकरण में प्रश्नवाचक चिह्न (?) के स्थान पर क्या आएगा?  
 $15 \times 30 + 15 - 3 \div 2 = ?$

- Ans
- 1. 35
  - 2. 30
  - 3. 15
  - 4. 40

Question ID : 264330114249

Option 1 ID : 264330449083

Option 2 ID : 264330449082

Option 3 ID : 264330449081

Option 4 ID : 264330449084

Status : Answered

Chosen Option : 1

Q.8 एक पासे के अलग-अलग फलकों पर छह अक्षर/अंक A, B, C, 1, 2 और 3 लिखे गए हैं। इस पासे की दो स्थितियां दी गई आकृति में दिखाई गई हैं। C अक्षर वाले फलक के विपरीत फलक पर कौन-सा अक्षर/अंक है?



- Ans
- 1. 3
  - 2. B
  - 3. 2
  - 4. 1

Question ID : 264330109201  
Option 1 ID : 264330429083  
Option 2 ID : 264330429082  
Option 3 ID : 264330429081  
Option 4 ID : 264330429084

Status : Answered

Chosen Option : 1

Q.9 निम्नलिखित में से कौन-सी संख्या दी गई श्रृंखला में प्रश्न चिह्न (?) के स्थान पर आएगी?  
473, 517, 561, ?, 649, 693

- Ans
- 1. 598
  - 2. 607
  - 3. 603
  - 4. 605

Question ID : 26433067627  
Option 1 ID : 264330265020  
Option 2 ID : 264330265022  
Option 3 ID : 264330265021  
Option 4 ID : 264330265023

Status : Answered

Chosen Option : 4

Q.10 एक निश्चित कूट भाषा में "GRAPE" को 21-54-3-48-15 के रूप में कूटबद्ध किया जाता है, और "MELON" को 39-15-36-45-42 के रूप में कूटबद्ध किया जाता है। उसी कूट भाषा में "PEACH" को किस प्रकार कूटबद्ध किया जाएगा?

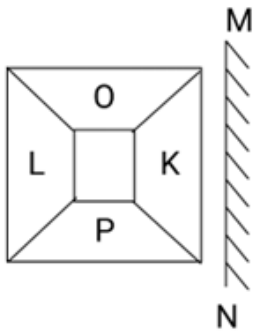
- Ans
- 1. 48-15-3-9-24
  - 2. 49-15-3-9-27
  - 3. 45-16-3-9-24
  - 4. 48-15-3-8-27

Question ID : 264330132208  
Option 1 ID : 264330517928  
Option 2 ID : 264330517930  
Option 3 ID : 264330517929  
Option 4 ID : 264330517927

Status : Answered

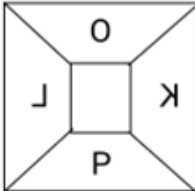
Chosen Option : 1

Q.11 यदि दर्पण को नीचे दर्शाए अनुसार रेखा 'MN' पर रखा जाता है तो दिए गए पैटर्न का सही दर्पण प्रतिबिम्ब कौन सा होगा?

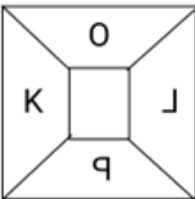


Ans

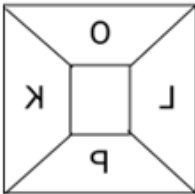
✗ 1.



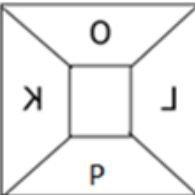
✗ 2.



✓ 3.



✗ 4.



KD JOB UPDATES

Question ID : 264330134117

Option 1 ID : 264330525492

Option 2 ID : 264330525494

Option 3 ID : 264330525491

Option 4 ID : 264330525493

Status : Answered

Chosen Option : 3

Q.12 नीचे दो कथन और दो निष्कर्ष दिए गए हैं। कथनों को सत्य मानते हुए, भले ही वे सामान्य रूप से ज्ञात तथ्यों से भिन्न प्रतीत होते हों, निर्धारित करें कि कौन-से निष्कर्ष दिए गए कथनों का तार्किक रूप से पालन करते हैं?

कथन:

कुछ खजूर हेज़लनट हैं।

सभी हेज़लनट अखरोट हैं।

निष्कर्ष:

I. कुछ खजूर अखरोट हैं।

II. कुछ अखरोट हेज़लनट हैं।

Ans  1. केवल निष्कर्ष I पालन करता है

2. दोनों निष्कर्ष पालन करते हैं

3. न तो निष्कर्ष I और न ही निष्कर्ष II पालन करता है

4. केवल निष्कर्ष II पालन करता है

Question ID : 26433056646

Option 1 ID : 264330221568

Option 2 ID : 264330221570

Option 3 ID : 264330221571

Option 4 ID : 264330221569

Status : Answered

Chosen Option : 2

Q.13 निम्नलिखित श्रृंखला में प्रश्नचिह्न (?) के स्थान पर कौन-सी संख्या आएगी?  
6, 20, 42, ?, 110, 156

Ans  1. 80

2. 72

3. 50

4. 64

Question ID : 26433067831

Option 1 ID : 264330265836

Option 2 ID : 264330265837

Option 3 ID : 264330265839

Option 4 ID : 264330265838

Status : Answered

Chosen Option : 2

Q.14 यदि A का अर्थ '+' हो, B का अर्थ '×' हो, C का अर्थ '-' हो और D का अर्थ '÷' हो, तो निम्नलिखित समीकरण का मान कितना होगा?  
94 C 12 B 6 A 216 D 9 = ?

Ans  1. 47

2. 46

3. 68

4. 52

Question ID : 264330129785

Option 1 ID : 264330508374

Option 2 ID : 264330508372

Option 3 ID : 264330508371

Option 4 ID : 264330508373

Status : Answered

Chosen Option : 2

Q.15 निम्नलिखित में से कौन-सी आकृति दी गई श्रृंखला में 5वें स्थान पर रखे जाने पर

पहली चार आकृतियों द्वारा निर्मित श्रृंखला को जारी रखेगी?

M	+	W	S	+
	2	+	W	2
S		M		

1

2

3

4

Ans

✗ 1.

	+
M	
	S

✗ 2.

	W
S	
	+

✓ 3.

	M
S	
	+

✗ 4.

	S
M	
	+

Question ID : 26433087308

Option 1 ID : 264330342869

Option 2 ID : 264330342872

Option 3 ID : 264330342870

Option 4 ID : 264330342871

Status : Answered

Chosen Option : 3



Q.16 निम्नलिखित में से कौन-सा विकल्प दी गई श्रृंखला में प्रश्नचिह्न (?) के स्थान पर आएगा?  
HKOE , KNOE , ? , QTOE , TWOE

- Ans  1. QNOE  
 2. NQEO  
 3. NOQE  
 4. NQOE

Question ID : 264330102492  
Option 1 ID : 264330402398  
Option 2 ID : 264330402399  
Option 3 ID : 264330402400  
Option 4 ID : 264330402397  
Status : Answered  
Chosen Option : 4

Q.17 F, J का भाई है। E, D की बहन है। K, L की बहन है। D, L का पुत्र है। J, E का पिता है। D का F से क्या संबंध है?

- Ans  1. भतीजी  
 2. पत्नी  
 3. भतीजा  
 4. बहनोई

Question ID : 264330126019  
Option 1 ID : 264330493748  
Option 2 ID : 264330493750  
Option 3 ID : 264330493751  
Option 4 ID : 264330493749  
Status : Answered  
Chosen Option : 3

Q.18 कौन-सा अक्षर-समूह प्रश्नचिह्न (?) के स्थान पर आकर दी गई श्रृंखला को पूर्ण करेगा?  
ZFKQ, BCMN, ?, FWQH, HTSE

- Ans  1. DZPJ  
 2. DZOK  
 3. DBOM  
 4. DAOL

Question ID : 26433076663  
Option 1 ID : 264330300719  
Option 2 ID : 264330300716  
Option 3 ID : 264330300718  
Option 4 ID : 264330300717  
Status : Answered  
Chosen Option : 2

Q.19 उस सही विकल्प का चयन कीजिए, जो दिए गए शब्दों के उसी क्रम में व्यवस्थापन को दर्शाता है, जिस क्रम में वे अंग्रेजी शब्दकोश में मौजूद होते हैं।

1. Desperate
2. Desolate
3. Destruction
4. Desire
5. Descend
6. Destination

Ans  1. 5, 4, 1, 2, 6, 3  
 2. 5, 4, 1, 6, 2, 3  
 3. 5, 4, 2, 1, 6, 3  
 4. 5, 4, 2, 1, 3, 6

Question ID : 264330145379

Option 1 ID : 264330569774

Option 2 ID : 264330569771

Option 3 ID : 264330569772

Option 4 ID : 264330569773

Status : Answered

Chosen Option : 3

Q.20 "Z @ A" का अर्थ है "Z, A का पुत्र है"  
"Z \* A" का अर्थ है "Z, A का भाई है"  
"Z x A" का अर्थ है "Z, A के पिता है"  
"Z # A" का अर्थ है "Z, A की बहन है"  
"Z \$ A" का अर्थ है "Z, A की पुत्री है"  
"Z = A" का अर्थ है "Z, A की माता है"  
निम्नलिखित व्यंजक में A का Y से क्या संबंध है?  
 $A * S = J @ M x Y$

Ans  1. A, Y का भाई है।  
 2. A, Y की माता का भाई है।  
 3. A, Y का चचेरा/ममेरा/फुफेरा/मौसेरा भाई/बहन है।  
 4. A, Y के पिता है।

Question ID : 26433057298

Option 1 ID : 264330224176

Option 2 ID : 264330224177

Option 3 ID : 264330224178

Option 4 ID : 264330224179

Status : Answered

Chosen Option : 2

Q.21 पूजा बिंदु A से पूर्व की ओर 4 km झाड़व करती है। वह दाएं मुड़ती है, और 2 km झाड़व करती है। फिर वह बाएं मुड़ती है, और 3 km झाड़व करती है। वह पुनः बाएं मुड़ती है, और बिंदु B तक पहुंचने के लिए 2 km झाड़व करती है। बिंदु A पर पुनः पहुंचने के लिए अब उसे कितनी दूर और किस दिशा में झाड़व करना चाहिए?

Ans  1. उत्तर की ओर 5 km  
 2. पूर्व की ओर 4 km  
 3. पश्चिम की ओर 7 km  
 4. दक्षिण की ओर 4 km

Question ID : 26433091676

Option 1 ID : 264330360070

Option 2 ID : 264330360072

Option 3 ID : 264330360071

Option 4 ID : 264330360069

Status : Answered

Chosen Option : 3

Q.22 यदि '+' का अर्थ '-' है, '-' का अर्थ 'x' है, 'x' का अर्थ '+' है और '+' का अर्थ '+' है, तो निम्नलिखित समीकरण में '?' के स्थान पर क्या आएगा?  
 $42 \times 6 - 7 \div 13 + 28 = ?$

- Ans
- 1. 39
  - 2. 27
  - 3. 43
  - 4. 34

Question ID : 264330101146  
Option 1 ID : 264330397131  
Option 2 ID : 264330397129  
Option 3 ID : 264330397132  
Option 4 ID : 264330397130  
Status : Answered  
Chosen Option : 4

Q.23 निम्नलिखित में से तीन अक्षर-समूह किसी न किसी तरह से संगत हैं, और एक असंगत है। असंगत अक्षर समूह का चयन करें।

- Ans
- 1. HDGE
  - 2. JQAZ
  - 3. OKNL
  - 4. FBEC

Question ID : 264330145347  
Option 1 ID : 264330569646  
Option 2 ID : 264330569644  
Option 3 ID : 264330569643  
Option 4 ID : 264330569645  
Status : Answered  
Chosen Option : 2

Q.24 यदि '+' का अर्थ '-' है, '-' का अर्थ 'x' है, 'x' का अर्थ '+' है और '+' का अर्थ '+' है, तो निम्नलिखित समीकरण में '?' के स्थान पर क्या आएगा?  
 $45 - 3 \div 144 \times 12 + 38 = ?$

- Ans
- 1. 91
  - 2. 123
  - 3. 95
  - 4. 109

Question ID : 264330101153  
Option 1 ID : 264330397160  
Option 2 ID : 264330397159  
Option 3 ID : 264330397157  
Option 4 ID : 264330397158  
Status : Answered  
Chosen Option : 4

Q.25 किसी निश्चित कूट भाषा में, 'COLD' को '6428' के रूप में कूटबद्ध किया जाता है, और 'TIDE' को '9673' के रूप में कूटबद्ध किया जाता है। दी गई उस कूट भाषा में 'D' के लिए कूट क्या है?

Ans  1. 6

2. 2

3. 3

4. 9

Question ID : 264330169654

Option 1 ID : 264330665317

Option 2 ID : 264330665315

Option 3 ID : 264330665316

Option 4 ID : 264330665318

Status : Answered

Chosen Option : 1

Q.26 उस विकल्प का चयन करें, जो उन अक्षरों को निरूपित करता है, जिन्हें नीचे दिए गए रिक्त स्थानों में क्रमिक रूप से बाएं से दाएं रखे जाने पर दी गई अक्षर श्रृंखला पूरी हो जाएगी।

\_ L \_ \_ K S \_ T U \_ S L \_ \_ K

Ans  1. KTULUTS

2. STULKTU

3. UTSKTLU

4. LUSKTUK

Question ID : 26433086953

Option 1 ID : 264330341456

Option 2 ID : 264330341455

Option 3 ID : 264330341453

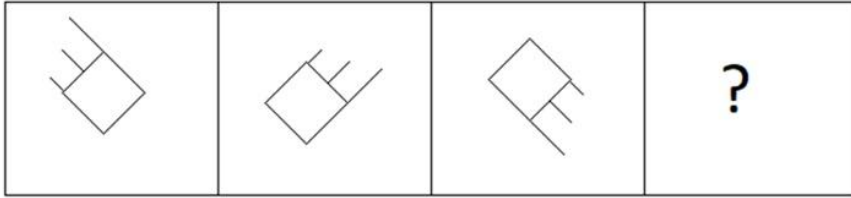
Option 4 ID : 264330341454

Status : Answered

Chosen Option : 2

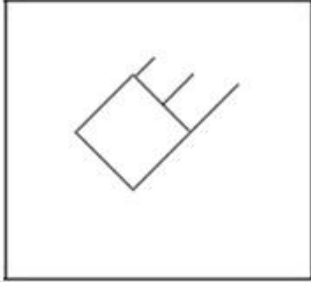
KD JOB UPDATES

Q.27 निम्नलिखित आकृति श्रृंखला में आगे आने वाली आकृति का चयन करें।

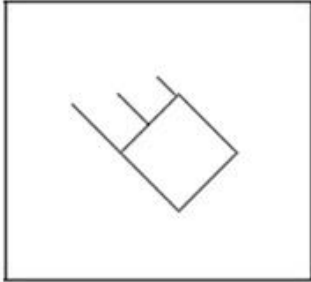


Ans

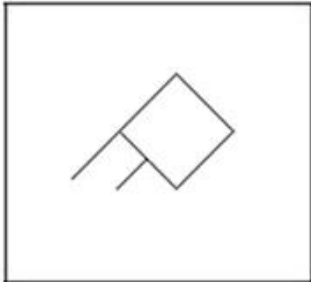
✗ 1.



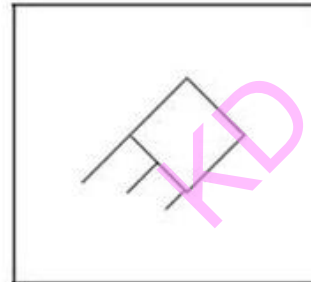
✗ 2.



✗ 3.



✓ 4.



Question ID : 26433087071

Option 1 ID : 264330341926

Option 2 ID : 264330341925

Option 3 ID : 264330341927

Option 4 ID : 264330341928

Status : Answered

Chosen Option : 4

Q.28 उस विकल्प का चयन कीजिए, जो दिए गए शब्दों के उस सही क्रम को दर्शाता है, जिस क्रम में वे अंग्रेजी शब्दकोश में मौजूद होते हैं।

1. Flint
2. Flec
3. Flaw
4. Fleet
5. Flight

Ans  1. 3, 5, 4, 2, 1

2. 3, 2, 4, 5, 1

3. 2, 3, 4, 5, 1

4. 3, 4, 2, 5, 1

Question ID : 26433067248

Option 1 ID : 264330263504

Option 2 ID : 264330263505

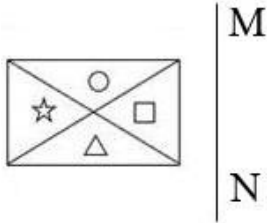
Option 3 ID : 264330263506

Option 4 ID : 264330263507

Status : Answered

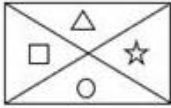
Chosen Option : 2

Q.29 जब दर्पण को रेखा MN पर रखा जाता है, तो दी गई आकृति का सही दर्पण प्रतिबिंब ज्ञात कीजिए।

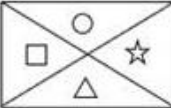


Ans

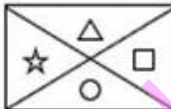
1.



2.



3.



4.



Question ID : 26433056624

Option 1 ID : 264330221481

Option 2 ID : 264330221480

Option 3 ID : 264330221483

Option 4 ID : 264330221482

Status : Answered

Chosen Option : 2

Q.30 छह विद्यार्थी एक वृत्ताकार मेज के परितः केंद्र की ओर मुख करके बैठे हैं। A, E और D दोनों के ठीक बगल में है। E, C के दाईं ओर तीसरे स्थान पर बैठा है। D, F के बाईं ओर तीसरे स्थान पर बैठा है। E, F के ठीक बगल में है। B, E के बाईं ओर दूसरे स्थान पर बैठा है। A और C, दोनों के ठीक बगल में कौन बैठा है?

- Ans
- 1. E
  - 2. F
  - 3. B
  - 4. D

Question ID : 26433068168  
Option 1 ID : 264330267187  
Option 2 ID : 264330267185  
Option 3 ID : 264330267186  
Option 4 ID : 264330267184  
Status : Answered  
Chosen Option : 4

Q.31 एक निश्चित कूट भाषा में "EDUCATION" को "FCVBBSJNO" लिखा जाता है, और "MICROSOFT" को "NHDQPRPEU" लिखा जाता है। उसी कूट भाषा में "SEMICIRCLE" को किस प्रकार लिखा जाएगा?

- Ans
- 1. TDHNDHSFBD
  - 2. TDNHHSBFD
  - 3. TDNHDHSBMD
  - 4. TDNHHSBFM

Question ID : 26433070268  
Option 1 ID : 264330275550  
Option 2 ID : 264330275549  
Option 3 ID : 264330275548  
Option 4 ID : 264330275551  
Status : Answered  
Chosen Option : 3

Q.32 उस विकल्प का चयन करें जो पांचवीं संख्या से उसी प्रकार संबंधित है जैसे पहली संख्या दूसरी संख्या से और तीसरी संख्या चौथी संख्या से संबंधित है।  
32 : 10 :: 24 : 12 :: 98 : ?

- Ans
- 1. 43
  - 2. 34
  - 3. 24
  - 4. 25

Question ID : 26433079116  
Option 1 ID : 264330310469  
Option 2 ID : 264330310470  
Option 3 ID : 264330310468  
Option 4 ID : 264330310471  
Status : Answered  
Chosen Option : 2

Q.33 उस समुच्चय का चयन कीजिए जिसमें संख्याएँ आपस में उसी प्रकार संबंधित हैं जिस प्रकार निम्नलिखित समुच्चयों की संख्याएँ आपस में संबंधित हैं। (नोट: संख्याओं को उसके घटक अंकों में विभाजित किए बिना, पूर्ण संख्याओं पर गणितीय संक्रियाएं की जानी चाहिए। उदाहरण के लिए 13 - गणितीय संक्रियाएं जैसे कि जोड़ना/घटाना/गुणा करना इत्यादि 13 में किया जा सकता है। 13 को 1 और 3 में विभाजित करना और फिर 1 और 3 पर गणितीय संक्रियाएं करने की अनुमति नहीं है।)  
(23, 6, 35)  
(13, 5, 23)

- Ans  1. (16, 4, 20)  
 2. (24, 5, 33)  
 3. (25, 8, 41)  
 4. (13, 7, 28)

Question ID : 26433057444

Option 1 ID : 264330224760

Option 2 ID : 264330224762

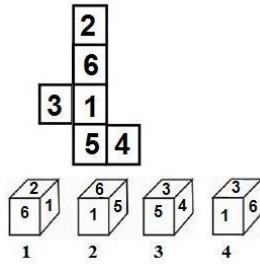
Option 3 ID : 264330224763

Option 4 ID : 264330224761

Status : Answered

Chosen Option : 3

Q.34 यदि दी गई शीट को मोड़कर एक घन बनाया जाए, तो निम्न में से कौन सी आकृति/आकृतियां बनना संभव है?  
(संख्या केवल घनों के फलकों को इंगित करने के लिए दी गई हैं)



- Ans  1. केवल 4  
 2. केवल 2  
 3. केवल 3  
 4. केवल 1 और 4

Question ID : 26433065672

Option 1 ID : 264330257251

Option 2 ID : 264330257249

Option 3 ID : 264330257250

Option 4 ID : 264330257248

Status : Answered

Chosen Option : 1

Q.35 यदि '+' का अर्थ '-' है, '-' का अर्थ '+' है, 'x' का अर्थ '-' है और '÷' का अर्थ 'x' है, तो दिए गए समीकरण में प्रश्नवाचक चिह्न (?) के स्थान पर क्या आएगा?  
 $8 \div 5 - 5 \times 10 + 2 = ?$

- Ans  1. 45  
 2. 40  
 3. 35  
 4. 30

Question ID : 26433091648

Option 1 ID : 264330359959

Option 2 ID : 264330359958

Option 3 ID : 264330359957

Option 4 ID : 264330359960

Status : Answered

Chosen Option : 2



Q.36 नीचे दो कथन और दो निष्कर्ष दिए गए हैं। कथनों को सत्य मानते हुए, भले ही वे सामान्य रूप से ज्ञात तथ्यों से भिन्न प्रतीत होते हों, निर्धारित करें कि कौन-से निष्कर्ष दिए गए कथनों का तार्किक रूप से पालन करते हैं?

**कथन**

सभी आयरन कॉपर हैं।

सभी कॉपर एल्युमिनियम हैं।

**निष्कर्ष:**

I. कुछ एल्युमीनियम आयरन हैं

II. कुछ एल्युमीनियम कॉपर हैं

- Ans
- 1. केवल निष्कर्ष I पालन करता है
  - 2. न तो निष्कर्ष I और न ही निष्कर्ष II पालन करता है
  - 3. दोनों निष्कर्ष पालन करते हैं
  - 4. केवल निष्कर्ष II पालन करता है

Question ID : 26433056641

Option 1 ID : 264330221548

Option 2 ID : 264330221551

Option 3 ID : 264330221550

Option 4 ID : 264330221549

Status : Answered

Chosen Option : 3

Q.37 दिए गए समीकरण को सही बनाने के लिए किन दो चिह्नों को आपस में बदल देना चाहिए?

$$729 \times 9 - (56 - 6) \times 5 \div 2 + 152 \times 19 = 69$$

- Ans
- 1.  $\times$  और  $+$
  - 2.  $\div$  और  $-$
  - 3.  $+$  और  $-$
  - 4.  $\times$  और  $\div$

Question ID : 264330145337

Option 1 ID : 264330569603

Option 2 ID : 264330569606

Option 3 ID : 264330569604

Option 4 ID : 264330569605

Status : Answered

Chosen Option : 4

Q.38 छह मित्र एक वृत्ताकार स्थिति में केंद्र की ओर मुख करके बैठे हुए हैं। सुमित, अमित के दाईं ओर दूसरे स्थान पर बैठा है। करण, परम के ठीक बगल में है। टोनी, अमित के दाईं ओर तीसरे स्थान पर बैठा है। धरम, अमित और सुमित के ठीक बगल में बैठा है। करण, सुमित के दाईं ओर दूसरे स्थान पर बैठा है। परम के दाईं ओर चौथे स्थान पर कौन बैठा है?

- Ans
- 1. सुमित
  - 2. धरम
  - 3. टोनी
  - 4. करण

Question ID : 264330145407

Option 1 ID : 264330569884

Option 2 ID : 264330569886

Option 3 ID : 264330569883

Option 4 ID : 264330569885

Status : Answered

Chosen Option : 3

Q.39 उस समुच्चय का चयन कीजिए जिसमें संख्याएँ एक-दूसरे से उसी प्रकार संबंधित हैं जिस प्रकार निम्नलिखित समुच्चय की संख्याएँ आपस में संबंधित हैं।

(नोट: संख्याओं को उसके घटक अंकों में विभाजित किए बिना, पूर्ण संख्याओं पर गणितीय संक्रियाएँ की जानी चाहिए। उदाहरण के लिए 13 - संख्या 13 पर गणितीय संक्रियाएँ जैसे कि जोड़ना / घटाना / गुणा करना आदि को 13 से किया जा सकता है। 13 को 1 और 3 में तोड़ना और फिर 1 और 3 पर गणितीय संक्रियाएँ करने की अनुमति नहीं है।)

(2, 5, 341)  
(1, 7, 510)

- Ans  1. (8,2,140)  
 2. (1,2,25)  
 3. (3,6,64)  
 4. (2,5,56)

Question ID : 264330145323

Option 1 ID : 264330569547

Option 2 ID : 264330569549

Option 3 ID : 264330569548

Option 4 ID : 264330569550

Status : Answered

Chosen Option : 2

Q.40 निम्नलिखित में से तीन अक्षर-समूह किसी न किसी तरह से संगत हैं, और एक असंगत है। असंगत अक्षर समूह का चयन करें।

- Ans  1. KPLO  
 2. LOKP  
 3. HMIL  
 4. SXTW

Question ID : 264330180759

Option 1 ID : 264330709003

Option 2 ID : 264330709006

Option 3 ID : 264330709005

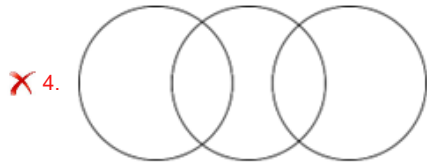
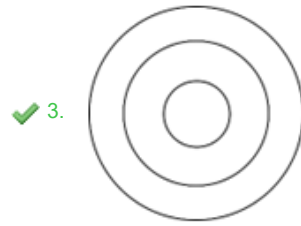
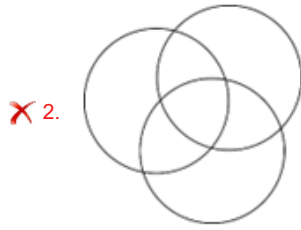
Option 4 ID : 264330709004

Status : Answered

Chosen Option : 2

Q.41 उस वेन आरेख का चयन करें, जो निम्नलिखित वर्गों के बीच के संबंध को सर्वोत्तम ढंग से दर्शाता है।  
यूरोप, यूनाइटेड किंगडम, लंदन

Ans



Question ID : 264330132030

Option 1 ID : 264330517218

Option 2 ID : 264330517215

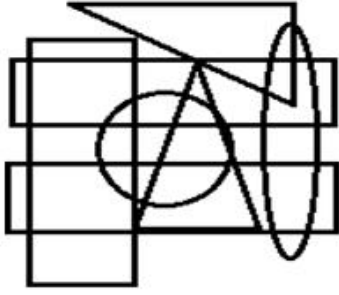
Option 3 ID : 264330517217

Option 4 ID : 264330517216

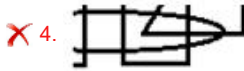
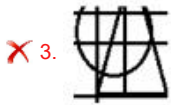

Status : Answered

Chosen Option : 3

Q.42 उस विकल्प आकृति का चयन कीजिए जो दी गई आकृति में उसके एक भाग के रूप में अंतर्निहित है  
(आकृति को घमाने की अनुमति नहीं है)।



Ans



Question ID : 264330145464

Option 1 ID : 264330570112

Option 2 ID : 264330570111

Option 3 ID : 264330570114

Option 4 ID : 264330570113

Status : Answered

Chosen Option : 1

Q.43 उस विकल्प का चयन कीजिए, जो तीसरे शब्द से उसी प्रकार संबंधित है, जिस प्रकार दूसरा शब्द पहले शब्द से संबंधित है। (शब्दों को अर्थपूर्ण शब्दों के रूप में माना जाना चाहिए, और वह शब्द में अक्षरों की संख्या/व्यंजनों/स्वरों की संख्या के आधार पर एक-दूसरे से संबंधित नहीं होना चाहिए।)

इच्छा करना (Yearn) : लालसा करना (Crave) :: फुरती (Haste) : ?

Ans ✗ 1. विलंब (Delay)

✗ 2. विश्राम (Leisure)

✓ 3. तत्परता (Alacrity)

✗ 4. तरसना (Hanker)

Question ID : 264330145399

Option 1 ID : 264330569852

Option 2 ID : 264330569853

Option 3 ID : 264330569854

Option 4 ID : 264330569851

Status : Answered

Chosen Option : 3

Q.44 एक निश्चित कूट भाषा में, "YATCH" को 67 और "DINE" को 40 के रूप में कूटबद्ध किया जाता है। उसी कूट भाषा में "MANGO" को किस प्रकार कूटबद्ध किया जाएगा?

- Ans
- 1. 57
  - 2. 65
  - 3. 60
  - 4. 62

Question ID : 26433074707  
Option 1 ID : 264330292917  
Option 2 ID : 264330292916  
Option 3 ID : 264330292918  
Option 4 ID : 264330292919  
Status : Answered  
Chosen Option : 3

Q.45 एक निश्चित कूट भाषा में "STORY" को "97" और "PULL" को "61" के रूप में कूटबद्ध किया जाता है। उसी कूट भाषा में "INCOME" को किस प्रकार कूटबद्ध किया जाएगा?

- Ans
- 1. 47
  - 2. 59
  - 3. 54
  - 4. 49

Question ID : 26433079044  
Option 1 ID : 264330310182  
Option 2 ID : 264330310181  
Option 3 ID : 264330310183  
Option 4 ID : 264330310180  
Status : Answered  
Chosen Option : 2

Q.46 उस समुच्चय का चयन कीजिए जिसमें संख्याएँ उसी प्रकार संबंधित हैं जिस प्रकार निम्नलिखित समुच्चयों की संख्याएँ संबंधित हैं।

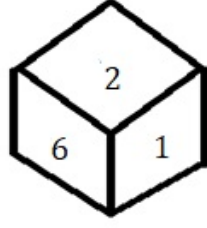
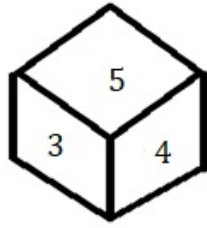
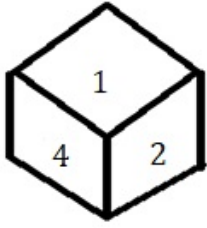
(नोट: संख्याओं को उसके घटक अंकों में विभाजित किए बिना, पूर्ण संख्याओं पर संक्रियाएँ की जानी चाहिए। उदाहरण के लिए 13 - इसमें 13 पर जोड़ने / घटाने / गुणा करने आदि जैसी संक्रियाओं को 13 में किया जा सकता है। 13 को 1 और 3 में विभाजित करने और फिर 1 और 3 पर गणितीय संक्रियाएँ करने की अनुमति नहीं है)

(7, 52), (9, 84)

- Ans
- 1. (11, 125)
  - 2. (8, 65)
  - 3. (13, 172)
  - 4. (14, 196)

Question ID : 264330145295  
Option 1 ID : 264330569437  
Option 2 ID : 264330569436  
Option 3 ID : 264330569435  
Option 4 ID : 264330569438  
Status : Answered  
Chosen Option : 3

Q.47 एक ही पासे की तीन अलग-अलग स्थितियाँ दर्शाई गई हैं। '6' दर्शाने वाले फलक के विपरीत फलक पर कौन-सी संख्या होगी?



- Ans  1. 2  
 2. 4  
 3. 1  
 4. 3

Question ID : 264330108969

Option 1 ID : 264330428154

Option 2 ID : 264330428156

Option 3 ID : 264330428153

Option 4 ID : 264330428155

Status : Answered

Chosen Option : 2

Q.48 निम्नलिखित में से कौन-सी संख्या दी गई श्रृंखला में प्रश्न-चिह्न (?) का स्थान लेगी?

42, 53, 46, ?, 53, 66

- Ans  1. 58  
 2. 51  
 3. 55  
 4. 48

Question ID : 26433091012

Option 1 ID : 264330357458

Option 2 ID : 264330357460

Option 3 ID : 264330357459

Option 4 ID : 264330357457

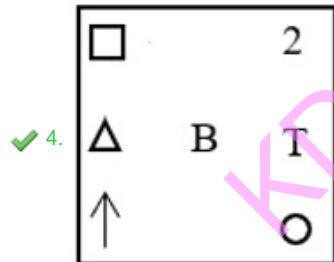
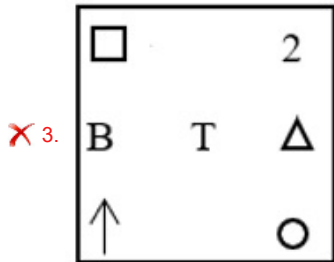
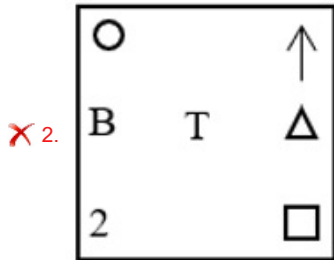
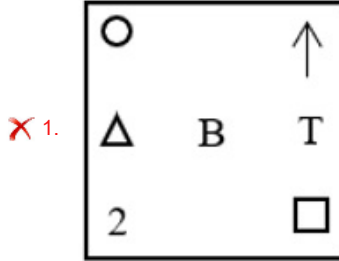
Status : Answered

Chosen Option : 1

Q.49 यदि निम्नलिखित आकृति श्रृंखला को जारी रखा जाए, तो दिए गए विकल्पों में से कौन-सी आकृति प्रश्नवाचक चिन्ह (?) को प्रतिस्थापित करेगी?

○	↑	□	2	2	○	↑	□	
B	T	△	△	B	T	T	△	B
2		□	↑	○	□	↑	○	2
								?

Ans



Question ID : 264330145481

Option 1 ID : 264330570180

Option 2 ID : 264330570181

Option 3 ID : 264330570182

Option 4 ID : 264330570179

Status : Answered

Chosen Option : 1

Q.50 इस प्रश्न में, तीन कथन और उसके बाद दो निष्कर्ष I और II दिए गए हैं। कथनों को सत्य मानते हुए, भले ही वे सामान्यतः ज्ञात तथ्यों से भिन्न प्रतीत होते हों, निर्णय लें कि कौन-से निष्कर्ष तार्किक रूप से कथनों का पालन करते हैं?

कथन:

- I. सभी चाय, कॉफ़ी हैं।
- II. सभी कॉफ़ी, पेय पदार्थ हैं।
- III. कुछ चाय, ड्रिंक हैं।

निष्कर्ष:

- I. सभी चाय, पेय पदार्थ हैं।
- II. कोई ड्रिंक, कॉफ़ी नहीं है।

- Ans
- 1. दोनों निष्कर्ष I और II पालन करते हैं
  - 2. केवल निष्कर्ष I पालन करता है
  - 3. केवल निष्कर्ष II पालन करता है
  - 4. न तो निष्कर्ष I और न ही निष्कर्ष II पालन करता है

Question ID : 264330104075

Option 1 ID : 264330408603

Option 2 ID : 264330408601

Option 3 ID : 264330408602

Option 4 ID : 264330408604

Status : Answered

Chosen Option : 2

Section : General Knowledge and General Awareness

Q.1 निम्नलिखित में से कौन-सा भारत के गौण औद्योगिक क्षेत्र (minor industrial region) का उदाहरण नहीं है?

- Ans
- 1. अंबाला-अमृतसर क्षेत्र
  - 2. हुगली क्षेत्र
  - 3. उत्तरी मालाबार क्षेत्र
  - 4. दुर्ग-रायपुर क्षेत्र

Question ID : 264330145256

Option 1 ID : 264330569281

Option 2 ID : 264330569279

Option 3 ID : 264330569280

Option 4 ID : 264330569282

Status : Not Answered

Chosen Option : --

Q.2 अकबर द्वारा खानदेश का मुगल साम्राज्य में विलय कब किया गया था?

- Ans
- 1. 1605 में
  - 2. 1595 में
  - 3. 1597 में
  - 4. 1601 में

Question ID : 264330109022

Option 1 ID : 264330428366

Option 2 ID : 264330428365

Option 3 ID : 264330428368

Option 4 ID : 264330428367

Status : Answered

Chosen Option : 4



Q.3 हर शंकर भट्टाचार्य \_\_\_\_\_ के उस्ताद (maestro) हैं।

- Ans
- 1. वायलिन
  - 2. सारंगी
  - 3. सितार
  - 4. संतूर

Question ID : 264330145186

Option 1 ID : 264330569002

Option 2 ID : 264330569000

Option 3 ID : 264330569001

Option 4 ID : 264330568999

Status : Answered

Chosen Option : 1

Q.4 सत्यजित रे की कृति 'चाइल्डहुड डेज़ - ए मेमोयर (Childhood Days - A Memoir)' निम्नलिखित में से किस भाषा में लिखी गई है?

- Ans
- 1. तेलुगू
  - 2. बंगाली
  - 3. कन्नड़
  - 4. हिन्दी

Question ID : 264330145183

Option 1 ID : 264330568989

Option 2 ID : 264330568987

Option 3 ID : 264330568990

Option 4 ID : 264330568988

Status : Answered

Chosen Option : 4

Q.5 सरकार ने सातवीं पंचवर्षीय योजना के बाद निम्नलिखित में से किन वर्षों में योजना अवकाश (plan holiday) लिया था?

- Ans
- 1. 1989 से 1991 तक
  - 2. 1992 से 1993 तक
  - 3. 1990 से 1992 तक
  - 4. 1991 से 1993 तक

Question ID : 264330145226

Option 1 ID : 264330569159

Option 2 ID : 264330569162

Option 3 ID : 264330569161

Option 4 ID : 264330569160

Status : Answered

Chosen Option : 3

Q.6 2016 के विश्व बैंक के आंकड़ों के अनुसार भारत में कितने प्रतिशत नौकरियों पर ऑटोमेशन का खतरा है?

- Ans
- ✓ 1. 69%
  - ✗ 2. 55%
  - ✗ 3. 77%
  - ✗ 4. 40%

Question ID : 264330111359  
Option 1 ID : 264330437522  
Option 2 ID : 264330437523  
Option 3 ID : 264330437521  
Option 4 ID : 264330437524  
Status : Not Answered  
Chosen Option : --

Q.7 निम्नलिखित में से किस नृत्य शैली की उत्पत्ति दक्षिणपूर्वी भारत में हुई थी?

- Ans
- ✗ 1. कथक
  - ✗ 2. छऊ
  - ✓ 3. कुचिपुड़ी
  - ✗ 4. सत्रीया

Question ID : 26433064643  
Option 1 ID : 264330253164  
Option 2 ID : 264330253167  
Option 3 ID : 264330253165  
Option 4 ID : 264330253166  
Status : Answered  
Chosen Option : 3

Q.8 भारत ने क्रिकेट में आईसीसी टी20 (ICC T20) पुरुष विश्व कप कितनी बार जीता है?

- Ans
- ✗ 1. 2
  - ✗ 2. 4
  - ✗ 3. 3
  - ✓ 4. 1

Question ID : 26433071373  
Option 1 ID : 264330279917  
Option 2 ID : 264330279919  
Option 3 ID : 264330279918  
Option 4 ID : 264330279916  
Status : Answered  
Chosen Option : 4

Q.9 हिमालय को पश्चिम से पूर्व तक क्षेत्रों के आधार पर विभाजित किया गया है। पश्चिम से पूर्व तक के क्षेत्रों का सही क्रम क्या है?

- Ans
- ✗ 1. पंजाब हिमालय, नेपाल हिमालय, कुमाऊँ हिमालय और असम हिमालय
  - ✓ 2. पंजाब हिमालय, कुमाऊँ हिमालय, नेपाल हिमालय और असम हिमालय
  - ✗ 3. पंजाब हिमालय, कुमाऊँ हिमालय, असम हिमालय और नेपाल हिमालय
  - ✗ 4. पंजाब हिमालय, नेपाल हिमालय, असम हिमालय और कुमाऊँ हिमालय

Question ID : 264330169318  
Option 1 ID : 264330664053  
Option 2 ID : 264330664054  
Option 3 ID : 264330664052  
Option 4 ID : 264330664051  
Status : Answered  
Chosen Option : 2

Q.10 निम्नलिखित में से कौन-सा पद लॉर्ड कॉर्नवालिस द्वारा बंगाल में लागू की गई एक प्रणाली/व्यवस्था को इंगित करता है, जिसके तहत जमींदारों को एक निश्चित तिथि तक एक निश्चित राजस्व प्राप्त करने के लिए भूमि का कानूनी स्वामित्व प्रदान किया जाता था?

- Ans
- 1. तालुकदारी व्यवस्था
  - 2. महलवाड़ी व्यवस्था
  - 3. स्थायी बंदोबस्त
  - 4. रैयतवाड़ी व्यवस्था

Question ID : 26433099165  
Option 1 ID : 264330389275  
Option 2 ID : 264330389276  
Option 3 ID : 264330389274  
Option 4 ID : 264330389273  
Status : Answered  
Chosen Option : 3

Q.11 भारतीय संविधान में वर्णित मूल कर्तव्यों का प्रावधान निम्नलिखित में से किससे प्रेरित है?

- Ans
- 1. यूएसएसआर (USSR) के संविधान से
  - 2. फ्रांस के संविधान से
  - 3. कनाडा के संविधान से
  - 4. संयुक्त राज्य अमेरिका के संविधान से

Question ID : 264330111510  
Option 1 ID : 264330438125  
Option 2 ID : 264330438128  
Option 3 ID : 264330438127  
Option 4 ID : 264330438126  
Status : Answered  
Chosen Option : 1

Q.12 ममिता (Maimata) निम्नलिखित में से किस राज्य का लोकप्रिय लोक नृत्य है?

- Ans
- 1. उत्तराखंड
  - 2. पंजाब
  - 3. हरियाणा
  - 4. त्रिपुरा

Question ID : 264330164794  
Option 1 ID : 264330646303  
Option 2 ID : 264330646305  
Option 3 ID : 264330646304  
Option 4 ID : 264330646306  
Status : Answered  
Chosen Option : 1

Q.13 अष्टाध्यायी, व्याकरण पर एक संस्कृत ग्रंथ है, जिसकी रचना छठी से पाँचवीं शताब्दी ईसा पूर्व में \_\_\_\_\_ द्वारा की गई थी।

- Ans  1. पाणिनी  
 2. अगस्त्य  
 3. पतंजलि  
 4. विश्वामित्र

Question ID : 264330165550  
Option 1 ID : 264330649282  
Option 2 ID : 264330649279  
Option 3 ID : 264330649280  
Option 4 ID : 264330649281  
Status : Answered  
Chosen Option : 1

Q.14 निम्नलिखित में से किस देश के राष्ट्रपति को 26 जनवरी 2020 को गणतंत्र दिवस परेड में मुख्य अतिथि के रूप में आमंत्रित किया गया था?

- Ans  1. ब्राज़ील  
 2. न्यूजीलैंड  
 3. इंडोनेशिया  
 4. ऑस्ट्रेलिया

Question ID : 26433070819  
Option 1 ID : 264330277724  
Option 2 ID : 264330277725  
Option 3 ID : 264330277727  
Option 4 ID : 264330277726  
Status : Answered  
Chosen Option : 3

Q.15 हिंदू धर्म के भीतर बुराइयों पर प्रहार करने के लिए आत्मीय सभा की स्थापना कब की गई थी?

- Ans  1. 1839  
 2. 1845  
 3. 1828  
 4. 1814

Question ID : 264330112194  
Option 1 ID : 264330440863  
Option 2 ID : 264330440864  
Option 3 ID : 264330440861  
Option 4 ID : 264330440862  
Status : Answered  
Chosen Option : 4

Q.16 आवर्त सारणी के समूह 18 का कौन-सा रासायनिक तत्व मृदा और चट्टानों में यूरेनियम के प्राकृतिक रेडियोधर्मी क्षय से उत्पन्न होता है?

- Ans
- 1. क्रिप्टॉन (Krypton)
  - 2. रेडॉन (Radon)
  - 3. नियॉन (Neon)
  - 4. ओगनेसन (Oganesson)

Question ID : 264330110061  
Option 1 ID : 264330432522  
Option 2 ID : 264330432524  
Option 3 ID : 264330432521  
Option 4 ID : 264330432523  
Status : Answered  
Chosen Option : 4

Q.17 हिमालय में सियाचिन \_\_\_\_\_ है।

- Ans
- 1. एक झील
  - 2. एक राष्ट्रीय उद्यान
  - 3. एक ग्लेशियर
  - 4. एक बांध

Question ID : 264330169991  
Option 1 ID : 264330666642  
Option 2 ID : 264330666641  
Option 3 ID : 264330666640  
Option 4 ID : 264330666639  
Status : Answered  
Chosen Option : 3

Q.18 लाल झील (Red Lake) कहाँ स्थित है?

- Ans
- 1. जापान
  - 2. यूएसए
  - 3. यूके
  - 4. चीन

Question ID : 26433064474  
Option 1 ID : 264330252489  
Option 2 ID : 264330252490  
Option 3 ID : 264330252491  
Option 4 ID : 264330252488  
Status : Answered  
Chosen Option : 2

Q.19 प्रशुल्क एवं व्यापार पर सामान्य समझौता (GATT) का 8वां राउंड, जिसे 'उरुग्वे राउंड' भी कहा जाता है, कब हुआ था, जिसके परिणामस्वरूप विश्व व्यापार संगठन (WTO) की स्थापना हुई थी?

- Ans
- 1. 1994 में
  - 2. 1993 में
  - 3. 1992 में
  - 4. 1991 में

Question ID : 26433064581  
Option 1 ID : 264330252919  
Option 2 ID : 264330252918  
Option 3 ID : 264330252917  
Option 4 ID : 264330252916  
Status : Answered  
Chosen Option : 1

Q.20 निम्नलिखित में से कौन सा नृत्य रूप, अपनी उत्पत्ति को प्राचीन नृत्य सादिर अट्टम से जोड़ता है?

- Ans
- 1. कथकली
  - 2. कुचिपुड़ी
  - 3. भरतनाट्यम्
  - 4. मोहिनीअट्टम

Question ID : 264330145146

Option 1 ID : 264330568842

Option 2 ID : 264330568841

Option 3 ID : 264330568840

Option 4 ID : 264330568839

Status : Answered

Chosen Option : 4

Q.21 पूर्वी घाट \_\_\_\_\_ से लेकर दक्षिण में नीलगिरी तक फैला हुआ है।

- Ans
- 1. महानदी घाटी
  - 2. गोदावरी घाटी
  - 3. सोन घाटी
  - 4. दामोदर घाटी

Question ID : 264330119793

Option 1 ID : 264330469448

Option 2 ID : 264330469450

Option 3 ID : 264330469447

Option 4 ID : 264330469449

Status : Answered

Chosen Option : 1

Q.22 भारतीय संविधान द्वारा अनुच्छेद 368 के अनुसार कितने प्रकार के संशोधनों का उल्लेख किया गया है?

- Ans
- 1. दो
  - 2. पाँच
  - 3. चार
  - 4. तीन

Question ID : 264330118523

Option 1 ID : 264330465496

Option 2 ID : 264330465493

Option 3 ID : 264330465494

Option 4 ID : 264330465495

Status : Not Answered

Chosen Option : --

Q.23 भारत के संविधान के किस अनुच्छेद में कहा गया है कि प्रधानमंत्री की नियुक्ति भारत के राष्ट्रपति द्वारा की जाती है?

- Ans
- 1. अनुच्छेद 73
  - 2. अनुच्छेद 75
  - 3. अनुच्छेद 76
  - 4. अनुच्छेद 74

Question ID : 264330130471

Option 1 ID : 264330510995

Option 2 ID : 264330510997

Option 3 ID : 264330510998

Option 4 ID : 264330510996

Status : Answered

Chosen Option : 4

Q.24 तारानुमा मंदिर (star-shaped temples) किसके शासनकाल के दौरान बनाए गए थे?

- Ans
- 1. चोल
  - 2. चालुक्य
  - 3. बादामी
  - 4. होयसल

Question ID : 264330164855  
Option 1 ID : 264330646550  
Option 2 ID : 264330646548  
Option 3 ID : 264330646547  
Option 4 ID : 264330646549  
Status : Not Answered  
Chosen Option : --

Q.25 निम्नलिखित में से किसने 'कुली' उपन्यास लिखा था, जो अमानवीयता के कारण होने वाले सामाजिक कष्टों पर केंद्रित था?

- Ans
- 1. मुल्क राज आनंद
  - 2. वी.एस. नायपॉल
  - 3. विजय तेंदुलकर
  - 4. आर.के. नारायण

Question ID : 26433071684  
Option 1 ID : 264330281161  
Option 2 ID : 264330281160  
Option 3 ID : 264330281163  
Option 4 ID : 264330281162  
Status : Not Answered  
Chosen Option : --

Q.26 \_\_\_\_\_ भूमि नियमित रूप से फसल के लिए उपयुक्त है।

- Ans
- 1. सीमांत (Marginal)
  - 2. नगरीय (Urban)
  - 3. कृष्य (Arable)
  - 4. बंजर (Barren)

Question ID : 264330163191  
Option 1 ID : 264330640078  
Option 2 ID : 264330640075  
Option 3 ID : 264330640077  
Option 4 ID : 264330640076  
Status : Answered  
Chosen Option : 3

Q.27 किस प्रकार की वर्षा में, हवाएँ, उत्तरी गोलार्ध में हवा की दिशा दक्षिणावर्त, और दक्षिणी गोलार्ध में हवा की दिशा वामावर्त रखते हुए उच्च दाब वाले क्षेत्र से बाहर की ओर चलती हैं?

- Ans
- 1. चक्रवात (Cyclones)
  - 2. पर्वत - विज्ञान (Orography)
  - 3. प्रतिचक्रवात (Anticyclone)
  - 4. संवहन (Convection)

Question ID : 264330111911  
Option 1 ID : 264330439731  
Option 2 ID : 264330439732  
Option 3 ID : 264330439729  
Option 4 ID : 264330439730  
Status : Answered  
Chosen Option : 4

Q.28 आधुनिक आवर्त सारणी में परमाणु संख्या 43 वाला कौन-सा रेडियोधर्मी तत्व अस्थिर है, और इसके सभी समस्थानिकों की अर्द्ध आयु अपेक्षाकृत छोटी है, जो 4.2 मिलियन वर्ष से 5.0 सेकंड तक है?

- Ans
- 1. नॉबेलियम (Nobelium)
  - 2. नेप्टूनियम (Neptunium)
  - 3. प्रोमैथियम (Promethium)
  - 4. टेक्नेटियम (Technetium)

Question ID : 264330110064  
Option 1 ID : 264330432536  
Option 2 ID : 264330432535  
Option 3 ID : 264330432533  
Option 4 ID : 264330432534  
Status : Not Answered  
Chosen Option : --

Q.29 16वीं शताब्दी के दौरान बहमनी साम्राज्य के विघटन के परिणामस्वरूप निम्नलिखित में से कौन-सा अस्तित्व में नहीं आया?

- Ans
- 1. गौर
  - 2. बीदर
  - 3. अहमदनगर
  - 4. गोलकुंडा

Question ID : 264330106564  
Option 1 ID : 264330418560  
Option 2 ID : 264330418557  
Option 3 ID : 264330418558  
Option 4 ID : 264330418559  
Status : Answered  
Chosen Option : 1

Q.30 निम्नलिखित में से कौन-सा गोलकृमि है?

- Ans
- 1. टीनिया (Taenia)
  - 2. प्लैनेरिया (Planaria)
  - 3. यकृत पर्णकृमि (Liver fluke)
  - 4. एस्केरिस (Ascaris)

Question ID : 26433082205  
Option 1 ID : 264330322654  
Option 2 ID : 264330322656  
Option 3 ID : 264330322655  
Option 4 ID : 264330322653  
Status : Answered  
Chosen Option : 3

Q.31 बास्केटबॉल कोर्ट की आकृति \_\_\_\_\_ होती है।

- Ans
- 1. त्रिभुजाकार
  - 2. वृत्ताकार
  - 3. वर्गाकार
  - 4. आयताकार

Question ID : 264330109852  
Option 1 ID : 264330431688  
Option 2 ID : 264330431687  
Option 3 ID : 264330431685  
Option 4 ID : 264330431686  
Status : Answered  
Chosen Option : 4



Q.32 गिद्ध \_\_\_\_\_ होते हैं।

- Ans
- 1. अपघटक
  - 2. शाकाहारी
  - 3. मांसाहारी
  - 4. सर्वाहारी

Question ID : 26433086613  
Option 1 ID : 264330340093  
Option 2 ID : 264330340095  
Option 3 ID : 264330340096  
Option 4 ID : 264330340094  
Status : Answered  
Chosen Option : 3

Q.33 सर्वेड्स ऑफ इंडिया सोसाइटी' निम्नलिखित में से किस नेता का मौलिक विचार था?

- Ans
- 1. गोपाल कृष्ण गोखले
  - 2. चितरंजन दास
  - 3. लाला लाजपत राय
  - 4. बी.आर. अम्बेडकर

Question ID : 264330165392  
Option 1 ID : 264330648647  
Option 2 ID : 264330648648  
Option 3 ID : 264330648650  
Option 4 ID : 264330648649  
Status : Answered  
Chosen Option : 1

Q.34 2022 तक प्राप्त जानकारी के अनुसार, भारतीय संविधान में कितने मूल कर्तव्यों को सूचीबद्ध किया गया है?

- Ans
- 1. 12
  - 2. 11
  - 3. 10
  - 4. 13

Question ID : 264330113380  
Option 1 ID : 264330445607  
Option 2 ID : 264330445606  
Option 3 ID : 264330445605  
Option 4 ID : 264330445608  
Status : Answered  
Chosen Option : 2

Q.35 अम्मनूर माधव चाकियार को निम्नलिखित में से किस नृत्य शैली में उनके योगदान के लिए पद्म श्री से सम्मानित किया गया था?

- Ans
- 1. कुचिपुड़ी
  - 2. कथकली
  - 3. यक्षगान
  - 4. कुटियाट्टम

Question ID : 264330145160  
Option 1 ID : 264330568898  
Option 2 ID : 264330568897  
Option 3 ID : 264330568896  
Option 4 ID : 264330568895  
Status : Not Answered  
Chosen Option : --

Q.36 निम्नलिखित में से कौन सा उद्योग, औद्योगिक नीति 1956 की अनुसूची A में शामिल नहीं था?

- Ans
- 1. नमक का खनन
  - 2. लौह एवं इस्पात
  - 3. खनिज तेल
  - 4. हवाई परिवहन

Question ID : 264330141497  
Option 1 ID : 264330554326  
Option 2 ID : 264330554323  
Option 3 ID : 264330554324  
Option 4 ID : 264330554325  
Status : Answered  
Chosen Option : 1

Q.37 राष्ट्रीय आय की गणना करते समय, निम्नलिखित में से किसे इनवेंटरी निवेश (inventory investment) में शामिल नहीं किया जाता है?

- Ans
- 1. अर्ध-निर्मित माल के स्टॉक में परिवर्तन (Change in stock of semi-finished goods)
  - 2. वर्ष के दौरान बिक्री में परिवर्तन (Change in sales during the year)
  - 3. कच्चे माल के स्टॉक में परिवर्तन (Change in stock of raw material)
  - 4. निर्मित माल के स्टॉक में परिवर्तन (Change in stock of finished goods)

Question ID : 264330120865  
Option 1 ID : 264330473676  
Option 2 ID : 264330473678  
Option 3 ID : 264330473677  
Option 4 ID : 264330473675  
Status : Answered  
Chosen Option : 2

Q.38 1 किलोवाट \_\_\_\_\_ के समतुल्य है।

- Ans
- 1. 3600 कैलोरी
  - 2. 3600 KJ/h
  - 3. 7200 जूल
  - 4. 7200 KJ/h

Question ID : 264330131763  
Option 1 ID : 264330516153  
Option 2 ID : 264330516151  
Option 3 ID : 264330516154  
Option 4 ID : 264330516152  
Status : Answered  
Chosen Option : 1

Q.39 दिए गए विकल्पों में से उस विकल्प का चयन कीजिए, जो लेड नाइट्रेट की अपघटन अभिक्रिया का एक उत्पाद नहीं है।

- Ans
- 1. ऑक्सीजन
  - 2. नाइट्रोजन
  - 3. नाइट्रोजन डाइऑक्साइड
  - 4. लेड ऑक्साइड

Question ID : 264330169298  
Option 1 ID : 264330663973  
Option 2 ID : 264330663974  
Option 3 ID : 264330663972  
Option 4 ID : 264330663971  
Status : Answered  
Chosen Option : 3

Q.40 निम्न में से कौन-सा विकल्प लघु बचतों का उदाहरण नहीं है?

- Ans
- 1. राष्ट्रीय बचत प्रमाणपत्र (National Savings Certificates)
  - 2. डाकघर जमा (Post Office Deposits)
  - 3. किसान विकास पत्र (Kisan Vikas Patras)
  - 4. म्यूचुअल फंड (Mutual Funds)

Question ID : 264330145238  
Option 1 ID : 264330569207  
Option 2 ID : 264330569208  
Option 3 ID : 264330569210  
Option 4 ID : 264330569209  
Status : Answered  
Chosen Option : 1

Q.41 भारतीय संविधान के किस अनुच्छेद के तहत संघ की कार्यपालिकीय शक्ति राष्ट्रपति में निहित होगी?

- Ans
- 1. अनुच्छेद 55
  - 2. अनुच्छेद 53
  - 3. अनुच्छेद 58
  - 4. अनुच्छेद 56

Question ID : 264330114494  
Option 1 ID : 264330450062  
Option 2 ID : 264330450061  
Option 3 ID : 264330450064  
Option 4 ID : 264330450063  
Status : Answered  
Chosen Option : 2

Q.42 आइस हॉकी के खेल में, सामान्य खेल के दौरान प्रतिस्पर्धा करने के लिए किसी भी एक समय पर, प्रत्येक टीम में कितने खिलाड़ी बर्फ (आइस) पर होते हैं?

- Ans
- 1. 5
  - 2. 10
  - 3. 12
  - 4. 6

Question ID : 26433089942  
Option 1 ID : 264330353248  
Option 2 ID : 264330353246  
Option 3 ID : 264330353247  
Option 4 ID : 264330353245  
Status : Not Answered  
Chosen Option : --

Q.43 चाद शुक्र (Chad Sukra) त्यौहार \_\_\_\_\_ की जयंतिया जनजाति द्वारा मनाया जाता है।

- Ans
- 1. झारखण्ड
  - 2. मेघालय
  - 3. पंजाब
  - 4. असम

Question ID : 26433086641  
Option 1 ID : 264330340208  
Option 2 ID : 264330340206  
Option 3 ID : 264330340205  
Option 4 ID : 264330340207  
Status : Not Answered  
Chosen Option : --

Q.44 केंद्र द्वारा राज्यपाल की नियुक्ति भारत के संविधान की किस विशेषता से संबंधित है?

- Ans  1. एकात्मक प्रणाली (Unitary system)  
 2. संघीय विशेषता (Federal feature)  
 3. निदेशक सिद्धांत (Directive Principles)  
 4. संविधान की सर्वोच्चता (Supremacy of the Constitution)

Question ID : 264330145268  
Option 1 ID : 264330569328  
Option 2 ID : 264330569330  
Option 3 ID : 264330569327  
Option 4 ID : 264330569329  
Status : Answered  
Chosen Option : 2

Q.45 \_\_\_\_\_ जन्म दर, वर्ष के मध्य में आकलित प्रति 1000 जनसंख्या पर वर्ष के दौरान जीवित जन्म लेने वाले बच्चों की संख्या को इंगित करती है।

- Ans  1. धनात्मक  
 2. अशोधित  
 3. ऋणात्मक  
 4. उदासीन

Question ID : 264330163246  
Option 1 ID : 264330640296  
Option 2 ID : 264330640298  
Option 3 ID : 264330640297  
Option 4 ID : 264330640295  
Status : Answered  
Chosen Option : 4

Q.46 आप उस प्रकार की दवाओं को क्या कहते हैं, जो ग्राही (receptor) को स्विच ऑन करके प्राकृतिक संदेशवाहक (natural messenger) की प्रतिकृति करती हैं?

- Ans  1. एगोनिस्ट (Agonist)  
 2. प्रति-अवसादक (Antidepressants)  
 3. एंटागोनिस्ट (Antagonist)  
 4. अवसादक (Depressants)

Question ID : 264330145209  
Option 1 ID : 264330569093  
Option 2 ID : 264330569094  
Option 3 ID : 264330569092  
Option 4 ID : 264330569091  
Status : Answered  
Chosen Option : 2

Q.47 एक आनत तल पर वस्तुओं की गति का अवलोकन करके, \_\_\_\_\_ ने यह निष्कर्ष निकाला कि जब वस्तुओं पर कोई बल कार्य नहीं करता है, तो वस्तुएं नियत गति से गतिमान रहती हैं।

- Ans
- 1. आर्किमिडीज़
  - 2. माइकल फैराडे
  - 3. जोहान्स केप्लर
  - 4. गैलीलियो

Question ID : 26433055071  
Option 1 ID : 264330215269  
Option 2 ID : 264330215270  
Option 3 ID : 264330215271  
Option 4 ID : 264330215268  
Status : Answered  
Chosen Option : 4

Q.48 निम्नलिखित में से कौन-सा कोशिकांग इलेक्ट्रॉन माइक्रोस्कोपी में गोल या तश्तरी (sausage) के आकार की संरचनाओं के रूप में दिखाई देता है, जिसका व्यास लगभग 0.5-1.0  $\mu\text{m}$  और लंबाई 2-8  $\mu\text{m}$  होती है?

- Ans
- 1. प्लास्टिड
  - 2. लाइसोसोम
  - 3. माइटोकॉन्ड्रिया
  - 4. राइबोसोम

Question ID : 264330145196  
Option 1 ID : 264330569040  
Option 2 ID : 264330569041  
Option 3 ID : 264330569042  
Option 4 ID : 264330569039  
Status : Answered  
Chosen Option : 4

Q.49 'पारी/इनिंग (inning)' शब्द निम्नलिखित में से किस खेल से संबंधित है?

- Ans
- 1. बास्केटबॉल
  - 2. खो-खो
  - 3. वालीबॉल
  - 4. हॉकी

Question ID : 264330118473  
Option 1 ID : 264330465293  
Option 2 ID : 264330465295  
Option 3 ID : 264330465294  
Option 4 ID : 264330465296  
Status : Answered  
Chosen Option : 2

Q.50 जगजीत सिंह गायन की किस विधा से संबंधित है?

- Ans
- 1. टप्पा
  - 2. ठुमरी
  - 3. राजल
  - 4. धुपद

Question ID : 26433074854

Option 1 ID : 264330293506

Option 2 ID : 264330293504

Option 3 ID : 264330293507

Option 4 ID : 264330293505

Status : Not Answered

Chosen Option : --

Section : Quantitative Aptitude

Q.1 यदि  $\sin A = \frac{2}{3}$  है, तो  $(7 - \tan A)(3 + \cos A)$  का मान ज्ञात कीजिए।

- Ans
- 1.  $\frac{61}{3} - \frac{17}{3\sqrt{5}}$
  - 2.  $\frac{61}{3\sqrt{5}} + \frac{17}{3}$
  - 3.  $\frac{61}{3} + \frac{17}{3\sqrt{5}}$
  - 4.  $\frac{61}{3} + \frac{17}{\sqrt{5}}$

Question ID : 264330158301

Option 1 ID : 264330620563

Option 2 ID : 264330620564

Option 3 ID : 264330620565

Option 4 ID : 264330620566

Status : Answered

Chosen Option : 3

Q.2 एक लड़का 30 km/h की चाल से घर से स्कूल जाता है, और 70 km/h की चाल से वापस लौटता है। पूरी यात्रा के लिए उसकी औसत चाल ज्ञात करें।

- Ans
- 1. 38 km/h
  - 2. 48 km/h
  - 3. 36 km/h
  - 4. 42 km/h

Question ID : 264330104489

Option 1 ID : 264330410258

Option 2 ID : 264330410257

Option 3 ID : 264330410260

Option 4 ID : 264330410259

Status : Answered

Chosen Option : 4

Q.3

$$\frac{1\frac{1}{2} \div 3\frac{1}{4} + \frac{1}{2} \div \frac{13}{14} + \frac{1}{5}}{\frac{1}{5} \times 3\frac{1}{2} - \frac{1}{3} \div 1\frac{3}{4} \times 3\frac{1}{2}}$$

का मान ज्ञात कीजिए।

- Ans  1. 33  
 2. 38  
 3. 36  
 4. 40

Question ID : 26433064877  
Option 1 ID : 264330254103  
Option 2 ID : 264330254102  
Option 3 ID : 264330254100  
Option 4 ID : 264330254101

Status : Answered

Chosen Option : 3

Q.4 यदि 2 पुरुष या 4 महिलाएं एक दीवार को 34 दिनों में बना सकते हैं, तो 6 पुरुष और 5 महिलाएं उसी दीवार को कितने दिनों में बना सकते हैं?

- Ans  1. 12  
 2. 16  
 3. 8  
 4. 24

Question ID : 264330102378  
Option 1 ID : 264330401978  
Option 2 ID : 264330401979  
Option 3 ID : 264330401977  
Option 4 ID : 264330401980

Status : Answered

Chosen Option : 3

Q.5

यदि  $\sin A = \frac{\sqrt{3}}{2}$ ,  $0 < A < 90^\circ$  है, तो  $2(\operatorname{cosec} A + \cot A)$  का मान क्या होगा?

- Ans  1.  $\frac{2}{\sqrt{3}}$   
 2.  $\sqrt{3}$   
 3.  $\frac{1}{\sqrt{3}}$   
 4.  $2\sqrt{3}$

Question ID : 264330157749  
Option 1 ID : 264330618358  
Option 2 ID : 264330618355  
Option 3 ID : 264330618357  
Option 4 ID : 264330618356

Status : Answered

Chosen Option : 4

Q.6 7:30 P.M. पर एक साइकिल के मालिक ने देखा कि एक चोर उसकी साइकिल को उसके घर से चुराकर एक विशेष दिशा में ले जा रहा है, और 10 km प्रति घंटे की लगभग चाल से साइकिल चला रहा है। उसने पुलिस को चोरी की सूचना दी, और पुलिसकर्मी ने चोरी के समय से आधे घंटे बाद, लेकिन 12 km प्रति घंटे की चाल से उसी बिंदु से चोर का पीछा करना शुरू किया। पुलिसकर्मी चोर को कितने बजे पकड़ लेगा?

- Ans
- 1. 10:45 P.M.
  - 2. 10:00 P.M.
  - 3. 9:30 P.M.
  - 4. 10:30 P.M.

Question ID : 26433090262  
Option 1 ID : 264330354528  
Option 2 ID : 264330354526  
Option 3 ID : 264330354525  
Option 4 ID : 264330354527  
Status : Answered  
Chosen Option : 4

Q.7  $\triangle ABC$  में, कोण ABC और कोण ACB के समद्विभाजक एक दूसरे को बिंदु O पर प्रतिच्छेदित करते हैं। यदि कोण BOC का मान  $125^\circ$  है, तो कोण BAC का मान किसके बराबर है?

- Ans
- 1.  $78^\circ$
  - 2.  $75^\circ$
  - 3.  $70^\circ$
  - 4.  $82^\circ$

Question ID : 264330165492  
Option 1 ID : 264330649049  
Option 2 ID : 264330649047  
Option 3 ID : 264330649048  
Option 4 ID : 264330649050  
Status : Answered  
Chosen Option : 3

Q.8 वह छोटी से छोटी संख्या ज्ञात कीजिए, जो 20, 28, 34, 60 और 75 से पूर्णतः विभाज्य हो।

- Ans
- 1. 35900
  - 2. 34500
  - 3. 35700
  - 4. 36220

Question ID : 264330102310  
Option 1 ID : 264330401707  
Option 2 ID : 264330401708  
Option 3 ID : 264330401705  
Option 4 ID : 264330401706  
Status : Answered  
Chosen Option : 3



Q.9 एक ठोस अर्धगोले का संपूर्ण पृष्ठीय क्षेत्रफल  $4158 \text{ cm}^2$  है। इसका आयतन ( $\text{cm}^3$  में) ज्ञात कीजिए।

- Ans  1. 1848  
 2. 19404  
 3. 9702  
 4. 462

Question ID : 264330145109  
Option 1 ID : 264330568693  
Option 2 ID : 264330568694  
Option 3 ID : 264330568691  
Option 4 ID : 264330568692  
Status : Answered  
Chosen Option : 2

Q.10 78, 84, 90 और 112 का महत्तम समापवर्तक (HCF) ज्ञात कीजिए।

- Ans  1. 1  
 2. 7  
 3. 5  
 4. 2

Question ID : 264330102308  
Option 1 ID : 264330401697  
Option 2 ID : 264330401700  
Option 3 ID : 264330401699  
Option 4 ID : 264330401698  
Status : Answered  
Chosen Option : 4

Q.11 12.25% वार्षिक साधारण ब्याज की दर पर तीन वर्ष में देय ₹9,429 के ऋण का भुगतान करने के लिए वार्षिक किश्त (₹में) कितनी होगी? [नोट: किश्तों का भुगतान पहले वर्ष, दूसरे वर्ष और तीसरे वर्ष के अंत में किया जाएगा।]

- Ans  1. 2800  
 2. 2,840  
 3. 2700  
 4. 2760

Question ID : 264330112545  
Option 1 ID : 264330442268  
Option 2 ID : 264330442265  
Option 3 ID : 264330442267  
Option 4 ID : 264330442266  
Status : Answered  
Chosen Option : 2

Q.12 एक आयत की भुजाओं का अनुपात 3 : 8 है, और इसका क्षेत्रफल  $1944 \text{ cm}^2$  है। इसका परिमाण कितना होगा?

- Ans  1. 208 cm  
 2. 198 cm  
 3. 308 cm  
 4. 189 cm

Question ID : 264330106082

Option 1 ID : 264330416629

Option 2 ID : 264330416631

Option 3 ID : 264330416630

Option 4 ID : 264330416632

Status : Answered

Chosen Option : 2

Q.13 A और B प्रतिदिन 10 घंटे कार्य करते हुए एक कार्य को क्रमशः 24 और 30 दिनों में पूरा करते हैं। कार्य दो पालियों में किया जाना है। सुबह की पाली 6 घंटे की, और शाम की पाली 4 घंटे की है। पहले दिन, A सुबह कार्य करता है, और B शाम को कार्य करता है, और वे प्रतिदिन अपनी पाली परस्पर बदल लेते हैं। कार्य किस दिन पूरा होगा?

- Ans  1. 30वें दिन  
 2. 24वें दिन  
 3. 27वें दिन  
 4. 21वें दिन

Question ID : 26433091569

Option 1 ID : 264330359644

Option 2 ID : 264330359642

Option 3 ID : 264330359643

Option 4 ID : 264330359641

Status : Answered

Chosen Option : 3

Q.14 एक वृत्त में, जीवाएं AB और CD आंतरिक रूप से E पर प्रतिच्छेदित करती हैं। यदि  $CD = 18 \text{ cm}$ ,  $DE = 5 \text{ cm}$ ,  $AE = 13 \text{ cm}$  है, तो BE की लंबाई ज्ञात कीजिए।

- Ans  1. 4 cm  
 2. 3 cm  
 3. 5 cm  
 4. 7 cm

Question ID : 264330168755

Option 1 ID : 264330661832

Option 2 ID : 264330661831

Option 3 ID : 264330661834

Option 4 ID : 264330661833

Status : Answered

Chosen Option : 3

Q.15 दी गई तालिका का अध्ययन कीजिए, और नीचे दिए गए प्रश्न का उत्तर दीजिए।  
दी गई तालिका तीन अलग-अलग गांवों की जनसंख्या में, जनसंख्या और साक्षरता/निरक्षरता दर के आंकड़े दर्शाती है।

गांव	पुरुषों और महिलाओं की संख्याओं का क्रमशः अनुपात	कुल जनसंख्या में से साक्षरों (पुरुष और महिला) का प्रतिशत	कुल जनसंख्या में से निरक्षरों (पुरुष और महिलाएँ) की संख्या
P	2 : 5	45	380
Q	3 : 7	65	270
R	1 : 3	80	150

गांव R में निरक्षरों की संख्या, गांव P में निरक्षरों की संख्या से कितने प्रतिशत कम है?

Ans

✗ 1.  $60\frac{9}{19}\%$

✓ 2.  $60\frac{10}{19}\%$

✗ 3.  $60\frac{11}{19}\%$

✗ 4.  $60\frac{8}{19}\%$

Question ID : 264330165501

Option 1 ID : 264330649085

Option 2 ID : 264330649084

Option 3 ID : 264330649083

Option 4 ID : 264330649086

Status : Answered

Chosen Option : 2

Q.16 0.03 और 0.0003 का मध्यानुपाती (mean proportion) कितना है?

Ans

✗ 1. 0.033

✓ 2. 0.003

✗ 3. 0.0003

✗ 4. 0.0013

Question ID : 264330145037

Option 1 ID : 264330568406

Option 2 ID : 264330568404

Option 3 ID : 264330568405

Option 4 ID : 264330568403

Status : Answered

Chosen Option : 2

Q.17 एक लंब वर्गाकार पिरामिड का पार्श्व पृष्ठीय क्षेत्रफल  $624 \text{ cm}^2$  है। यदि उस वर्ग के विकर्ण की लंबाई  $24\sqrt{2}$  हो, तो पिरामिड का आयतन ज्ञात कीजिए।

- Ans
- 1.  $780 \text{ cm}^3$
  - 2.  $1150 \text{ cm}^3$
  - 3.  $1083 \text{ cm}^3$
  - 4.  $960 \text{ cm}^3$

Question ID : 264330123011  
Option 1 ID : 264330482109  
Option 2 ID : 264330482110  
Option 3 ID : 264330482107  
Option 4 ID : 264330482108  
Status : Answered  
Chosen Option : 4

Q.18 मिहिर एक किताब ₹625 में खरीदता है। हालाँकि, कुछ अत्यावश्यकता के कारण, वह इसे ₹550 में बेच देता है। उसकी प्रतिशत हानि ज्ञात कीजिए।

- Ans
- 1. 14%
  - 2. 15%
  - 3. 12%
  - 4. 10%

Question ID : 264330102340  
Option 1 ID : 264330401827  
Option 2 ID : 264330401828  
Option 3 ID : 264330401826  
Option 4 ID : 264330401825  
Status : Answered  
Chosen Option : 3

Q.19 42 cm त्रिज्या वाले एक वृत्त में, एक चाप केंद्र पर  $60^\circ$  का कोण अंतरित करता है। चाप की लंबाई ज्ञात कीजिये।

$(\pi = \frac{22}{7} \text{ लीजिए})$

- Ans
- 1. 44 cm
  - 2. 42 cm
  - 3. 22 cm
  - 4. 21 cm

Question ID : 264330165441  
Option 1 ID : 264330648843  
Option 2 ID : 264330648845  
Option 3 ID : 264330648844  
Option 4 ID : 264330648846  
Status : Answered  
Chosen Option : 1

Q.20 एक दुकानदार किसी वस्तु के क्रय मूल्य में 50% की वृद्धि करके मूल्य अंकित करता है, और इसके अंकित मूल्य पर 40% की छूट प्रदान करता है। उसकी प्रतिशत हानि ज्ञात करें।

- Ans
- 1. 20%
  - 2. 10%
  - 3. 15%
  - 4. 5%

Question ID : 264330104507

Option 1 ID : 264330410330

Option 2 ID : 264330410332

Option 3 ID : 264330410329

Option 4 ID : 264330410331

Status : Answered

Chosen Option : 2

Q.21 दी गई तालिका का अध्ययन करें, और नीचे दिए गए प्रश्न का उत्तर दें।  
निम्न तालिका 6 अलग-अलग स्कूलों की 6 अलग-अलग कक्षाओं में पढ़ने वाले विद्यार्थियों की संख्या को दर्शाती है।

स्कूल	V	VI	VII	VIII	IX	X
P	152	160	145	156	147	144
Q	148	166	150	155	157	143
R	161	152	140	145	143	165
S	159	142	149	140	142	168
T	147	144	158	163	154	150
U	150	160	162	160	160	140
कुल	917	924	904	919	903	910

सभी स्कूलों में मिलाकर किस कक्षा में विद्यार्थियों की संख्या न्यूनतम है?

- Ans
- 1. X
  - 2. VIII
  - 3. VII
  - 4. IX

Question ID : 264330157723

Option 1 ID : 264330618254

Option 2 ID : 264330618252

Option 3 ID : 264330618251

Option 4 ID : 264330618253

Status : Answered

Chosen Option : 4

Q.22 यदि ब्याज की गणना अर्ध-वार्षिक चक्रवृद्धि आधार पर की जाती है, तो ₹8,000 की राशि पर 20% वार्षिक की दर से 1 वर्ष का चक्रवृद्धि ब्याज ज्ञात करें।

- Ans  1. ₹1,675  
 2. ₹1,680  
 3. ₹1,690  
 4. ₹1,685

Question ID : 264330145058

Option 1 ID : 264330568487

Option 2 ID : 264330568488

Option 3 ID : 264330568490

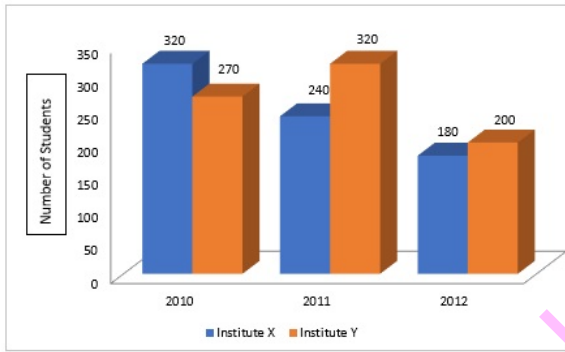
Option 4 ID : 264330568489

Status : Answered

Chosen Option : 2

Q.23 दिए गए आलेख का अध्ययन कीजिए और नीचे दिए गए प्रश्न का उत्तर दीजिए।

आलेख तीन वर्षों के दौरान दो संस्थानों (X और Y) में व्यावसायिक पाठ्यक्रम के लिए नामांकित छात्रों की संख्या से संबंधित डेटा दिखाता है।



Number of students = छात्रों की संख्या, Institute X = संस्थान X, Institute Y = संस्थान Y

2010 और 2011 में संस्थान X में नामांकित छात्रों की औसत संख्या तथा 2011 और 2012 में संस्थान Y में नामांकित छात्रों की औसत संख्या के बीच कितना अंतर है?

- Ans  1. 22  
 2. 20  
 3. 15  
 4. 18

Question ID : 264330158274

Option 1 ID : 264330620458

Option 2 ID : 264330620457

Option 3 ID : 264330620455

Option 4 ID : 264330620456

Status : Answered

Chosen Option : 2

Q.24 एक बेलन में 16 cm की ऊंचाई तक पानी भरा है। यदि 9 cm त्रिज्या का एक गोला इसमें डाला जाता है, तो बेलन की त्रिज्या 12 cm होने पर उसमें पानी की ऊंचाई में हुई वृद्धि ज्ञात कीजिए।

- Ans  1. 8.75 cm  
 2. 6 cm  
 3. 8 cm  
 4. 6.75 cm

Question ID : 264330104421  
Option 1 ID : 264330409988  
Option 2 ID : 264330409985  
Option 3 ID : 264330409987  
Option 4 ID : 264330409986  
Status : Answered  
Chosen Option : 4

Q.25 निम्नलिखित तालिका विभिन्न क्षेत्रों से एक वर्ष में हुई किसी कंपनी की आय को दर्शाती है:

क्षेत्र	वित्त	संचार	उत्पादन	बिक्री	परिवहन
राशि (लाख ₹ में)	85	60	67	115	75

अधिकतम कमाई वाले क्षेत्र और न्यूनतम कमाई वाले क्षेत्र से होने वाली आय के बीच का अंतर (लाख ₹ में) कितना है?

- Ans  1. 30  
 2. 55  
 3. 40  
 4. 48

Question ID : 264330165074  
Option 1 ID : 264330647425  
Option 2 ID : 264330647426  
Option 3 ID : 264330647424  
Option 4 ID : 264330647423  
Status : Answered  
Chosen Option : 2

Q.26 तीन संख्याएं 5 : 7 : 9 के अनुपात में हैं, और उनका लघुत्तम समापवर्त्य (LCM) 34,650 है। उनका महत्तम समापवर्तक (HCF) ज्ञात कीजिए।

- Ans  1. 55  
 2. 99  
 3. 110  
 4. 315

Question ID : 26433063670  
Option 1 ID : 264330249292  
Option 2 ID : 264330249295  
Option 3 ID : 264330249294  
Option 4 ID : 264330249293  
Status : Answered  
Chosen Option : 3

Q.27 निकुंज, धारा के विपरीत दिशा में 1 घंटे में 4 किलोमीटर, और धारा की दिशा में 15 मिनट में 2 किलोमीटर की दूरी तय करता है। शांत जल में 7 किलोमीटर की दूरी तय करने में उसे कितना समय लगेगा?

- Ans
- 1. 1 घंटा 5 मिनट
  - 2. 1 घंटा 20 मिनट
  - 3. 1 घंटा 10 मिनट
  - 4. 1 घंटा 15 मिनट

Question ID : 264330103626  
Option 1 ID : 264330406809  
Option 2 ID : 264330406812  
Option 3 ID : 264330406810  
Option 4 ID : 264330406811  
Status : Answered  
Chosen Option : 3

Q.28 एक लंब वृत्तीय शंकु की ऊंचाई और उसके आधार की त्रिज्या का अनुपात 12 : 5 है। यदि इसका आयतन  $314 \text{ cm}^3$  है, तो शंकु की तिर्यक ऊंचाई क्या है? ( $\pi = 3.14$  का प्रयोग करें)

- Ans
- 1. 14 cm
  - 2. 13 cm
  - 3. 12 cm
  - 4. 11 cm

Question ID : 264330145134  
Option 1 ID : 264330568794  
Option 2 ID : 264330568793  
Option 3 ID : 264330568792  
Option 4 ID : 264330568791  
Status : Answered  
Chosen Option : 2

Q.29 यदि  $\cos A = \frac{1}{2}$ ,  $0 \leq A \leq 90^\circ$  है, तो  $\sin (180 - A)$  का मान क्या होगा?

- Ans
- 1. 1
  - 2.  $\frac{\sqrt{3}}{2}$
  - 3.  $\frac{1}{2}$
  - 4.  $\frac{1}{\sqrt{3}}$

Question ID : 264330157753  
Option 1 ID : 264330618373  
Option 2 ID : 264330618372  
Option 3 ID : 264330618371  
Option 4 ID : 264330618374  
Status : Answered  
Chosen Option : 2



Q.30 महेश चावल को 24% हानि पर बेचने हेतु सहमत हो गया, क्योंकि चावल खराब हो गया था। हालांकि, उसने ग्राहकों को धोखा दिया, और 50 gm चावल के स्थान पर केवल 19 gm चावल दिए। उसके लाभ या हानि का प्रतिशत कितना है?

- Ans
- ✗ 1.  $\frac{100}{3}\%$  लाभ
  - ✗ 2.  $\frac{100}{3}\%$  हानि
  - ✓ 3. 100% लाभ
  - ✗ 4. 100% हानि

Question ID : 264330131521

Option 1 ID : 264330515189

Option 2 ID : 264330515190

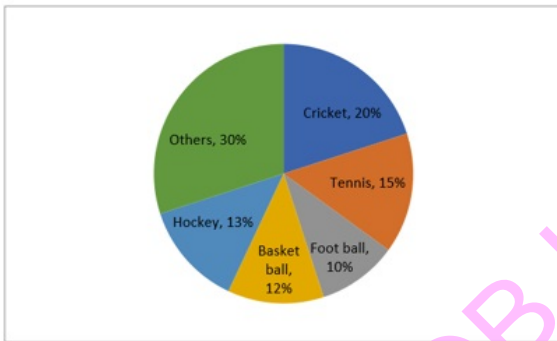
Option 3 ID : 264330515187

Option 4 ID : 264330515188

Status : Answered

Chosen Option : 3

Q.31 नीचे दिए गए पाई चार्ट में एक विशेष वर्ष के दौरान विभिन्न खेलों पर राज्य द्वारा किए गए व्यय को दर्शाया गया है:



Cricket = क्रिकेट Tennis = टेनिस Foot ball = फुटबॉल Basket ball = बास्केट बॉल Hockey = हॉकी Others = अन्य

यदि वर्ष के दौरान खेलों पर व्यय की गई कुल राशि ₹75,00,000 थी, तो क्रिकेट और हॉकी पर कुल मिलाकर कितनी राशि (₹ में) व्यय की गई थी?

- Ans
- ✓ 1. ₹24, 75, 000
  - ✗ 2. ₹26, 80, 000
  - ✗ 3. ₹21, 55, 000
  - ✗ 4. ₹18, 75, 000

Question ID : 264330158399

Option 1 ID : 264330620957

Option 2 ID : 264330620958

Option 3 ID : 264330620956

Option 4 ID : 264330620955

Status : Answered

Chosen Option : 1

Q.32 850 m और 700 m लंबी दो रेलगाड़ियाँ - मुंबई राजधानी और किसान एक्सप्रेस एक दूसरे से 1050 m दूर हैं, और एक दूसरे की ओर समानांतर पटरियों पर चल रही हैं। मुंबई राजधानी 62 km/h की रफ्तार से चल रही है, और किसान एक्सप्रेस 55 km/h की रफ्तार से चल रही है। कितने समय (सेकंड में) में रेलगाड़ियाँ एक दूसरे को पार करेंगी?

- Ans
- 1. 70
  - 2. 75
  - 3. 80
  - 4. 45

Question ID : 26433058800  
Option 1 ID : 264330230139  
Option 2 ID : 264330230136  
Option 3 ID : 264330230138  
Option 4 ID : 264330230137  
Status : Answered  
Chosen Option : 3

Q.33 वह बड़ी से बड़ी संख्या कौन-सी है, जिससे 1036, 1813 और 3885 में से प्रत्येक को विभाजित करने पर कुछ भी शेष न रहे?

- Ans
- 1. 111
  - 2. 37
  - 3. 259
  - 4. 333

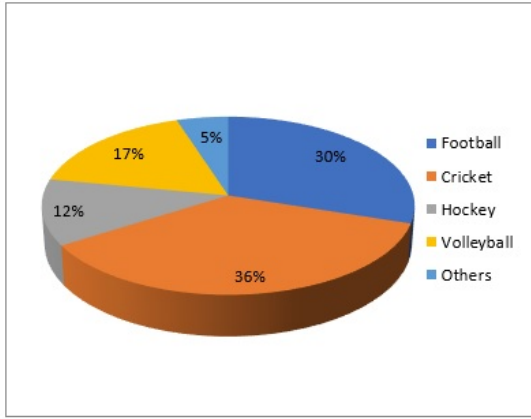
Question ID : 264330103225  
Option 1 ID : 264330405207  
Option 2 ID : 264330405205  
Option 3 ID : 264330405206  
Option 4 ID : 264330405208  
Status : Answered  
Chosen Option : 4

Q.34 73 और 657 का लघुत्तम समापवर्त्य (LCM) ज्ञात कीजिए।

- Ans
- 1. 657
  - 2. 365
  - 3. 73
  - 4. 146

Question ID : 26433065037  
Option 1 ID : 264330254742  
Option 2 ID : 264330254740  
Option 3 ID : 264330254743  
Option 4 ID : 264330254741  
Status : Answered  
Chosen Option : 1

Q.35 दिया गया पाई-चार्ट युवा लोगों के एक समूह के पसंदीदा खेलों पर सर्वेक्षण रिपोर्ट को दर्शाता है।



यदि कुल 4980 लोगों का सर्वेक्षण किया गया, तो फुटबाल को दर्शाने वाले क्षेत्र द्वारा निर्मित केंद्रीय कोण क्या है?

- Ans  1.  $108^\circ$   
 2.  $100^\circ$   
 3.  $105^\circ$   
 4.  $90^\circ$

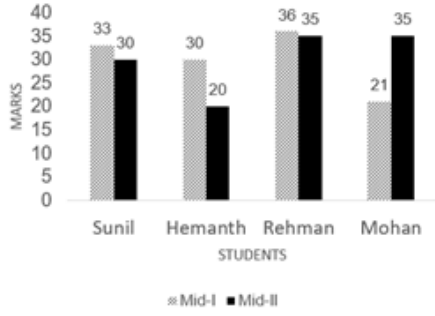
Question ID : 264330145024  
Option 1 ID : 264330568351  
Option 2 ID : 264330568353  
Option 3 ID : 264330568354  
Option 4 ID : 264330568352  
Status : Answered  
Chosen Option : 1

Q.36  $(x^6 + 1)$  और  $(x^4 - 1)$  का महत्तम समापवर्तक (HCF) क्या है?

- Ans  1. 1  
 2.  $(1 - x^2)$   
 3.  $(1 + x^2)$   
 4.  $(1 + x)$

Question ID : 26433064881  
Option 1 ID : 264330254118  
Option 2 ID : 264330254116  
Option 3 ID : 264330254119  
Option 4 ID : 264330254117  
Status : Answered  
Chosen Option : 3

Q.37 दिए गए बार ग्राफ का ध्यानपूर्वक अध्ययन कीजिए और निम्नलिखित प्रश्न का उत्तर दीजिए।  
मिड-I और मिड-II में चार छात्रों द्वारा प्राप्त अंक



Marks = अंक

Students = छात्र

Mid = मिड

मिड-I में हेमंत द्वारा प्राप्त अंक, मिड-II में सभी छात्रों द्वारा प्राप्त कुल अंकों के कितने प्रतिशत के बराबर हैं?

- Ans
- 1. 15%
  - 2. 25%
  - 3. 30%
  - 4. 20%

Question ID : 264330165426

Option 1 ID : 264330648784

Option 2 ID : 264330648786

Option 3 ID : 264330648783

Option 4 ID : 264330648785

Status : Answered

Chosen Option : 2

Q.38 निम्नलिखित व्यंजक का मान क्या होगा?

$$(1 - 2x)^2 - (1 + 2x)^2$$

- Ans
- 1.  $-(2 + 8x^2)$
  - 2.  $-8x$
  - 3.  $8x$
  - 4.  $2 + 8x^2$

Question ID : 264330157760

Option 1 ID : 264330618400

Option 2 ID : 264330618402

Option 3 ID : 264330618401

Option 4 ID : 264330618399

Status : Answered

Chosen Option : 2

Q.39 यदि दो वृत्तों की त्रिज्याएं 6 cm और 9 cm है, और अनुप्रस्थ उभयनिष्ठ स्पर्शरेखा की लंबाई 20 cm है, तो दोनों केंद्रों के बीच की दूरी ज्ञात कीजिए।

- Ans  1. 25 cm  
 2. 22 cm  
 3. 24 cm  
 4. 27 cm

Question ID : 264330165540  
Option 1 ID : 264330649241  
Option 2 ID : 264330649239  
Option 3 ID : 264330649240  
Option 4 ID : 264330649242  
Status : Answered  
Chosen Option : 1

Q.40 दो उम्मीदवारों के बीच हुए एक चुनाव में, मतदाता सूची के 20% मतदाताओं ने मतदान नहीं किया, और 80 मतदाताओं ने अपने मतपत्र खाली छोड़ दिए। विजेता उम्मीदवार ने मतदाता सूची में दर्ज कुल मतदाताओं के 45% मत प्राप्त किए, और उसे अपने विरोधी उम्मीदवार से 280 मत अधिक मिले। सूची में मतदाताओं की संख्या कितनी थी?

- Ans  1. 2500  
 2. 1500  
 3. 2800  
 4. 2000

Question ID : 264330158381  
Option 1 ID : 264330620885  
Option 2 ID : 264330620883  
Option 3 ID : 264330620886  
Option 4 ID : 264330620884  
Status : Answered  
Chosen Option : 4

KD JOB UPDATES

Q.41 A किसी कार्य का  $\frac{1}{5}$  भाग 20 दिन में कर सकता है, B उसी कार्य का 30% भाग 36 दिन में कर सकता है, जबकि C उसी कार्य का 80% भाग 160 दिन में कर सकता है। B और C ने मिलकर कार्य करना शुरू किया और x दिनों तक कार्य किया। x दिनों के बाद B ने कार्य छोड़ दिया, और A ने C के साथ मिलकर कार्य करना शुरू किया और दोनों ने शेष कार्य (x - 41) दिनों में कार्य पूरा किया। यदि (B + C) द्वारा एकसाथ मिलकर किए गए कार्य तथा (A + C) द्वारा एकसाथ मिलकर किए गए कार्य का अनुपात 19 : 6 है, तो अकेले C द्वारा 2x दिनों में उसी कार्य का कितना भाग पूरा किया जा सकता है?

- Ans
- 1.  $\frac{19}{25}$
  - 2.  $\frac{57}{100}$
  - 3.  $\frac{6}{25}$
  - 4.  $\frac{13}{25}$

Question ID : 264330114533  
Option 1 ID : 264330450219  
Option 2 ID : 264330450220  
Option 3 ID : 264330450218  
Option 4 ID : 264330450217  
Status : Answered  
Chosen Option : 2

Q.42 रूपू की आय, मधु की आय से 20% अधिक है। मधु की आय रूपू की आय से कितने प्रतिशत कम है?

- Ans
- 1.  $16\frac{2}{3}\%$
  - 2. 20%
  - 3.  $18\frac{2}{3}\%$
  - 4.  $17\frac{2}{3}\%$

Question ID : 264330145077  
Option 1 ID : 264330568566  
Option 2 ID : 264330568563  
Option 3 ID : 264330568564  
Option 4 ID : 264330568565  
Status : Answered  
Chosen Option : 1

Q.43 खराब प्रदर्शन के कारण अर्पित का वेतन 1 वर्ष के बाद 5% कम हो गया, और दूसरे वर्ष के बाद 8% और कम हो गया। प्रारंभ में, उसका वेतन ₹80,000 था। उसका वर्तमान वेतन (₹में) कितना है?

Ans ✓ 1. 69920

✗ 2. 70920

✗ 3. 69620

✗ 4. 65720

Question ID : 264330103310

Option 1 ID : 264330405547

Option 2 ID : 264330405545

Option 3 ID : 264330405546

Option 4 ID : 264330405548

Status : Answered

Chosen Option : 1

Q.44 यदि  $a + b + c = 5$  और  $ab + bc + ca = 7$  है, तो  $a^3 + b^3 + c^3 - 3abc$  का मान क्या होगा?

Ans ✓ 1. 20

✗ 2. 30

✗ 3. 15

✗ 4. 25

Question ID : 264330157773

Option 1 ID : 264330618452

Option 2 ID : 264330618454

Option 3 ID : 264330618451

Option 4 ID : 264330618453

Status : Answered

Chosen Option : 1

Q.45 0.48, 0.84 और 32 का चतुर्थानुपाती (fourth proportional) ज्ञात करें।

Ans ✗ 1. 34

✗ 2. 43

✗ 3. 65

✓ 4. 56

Question ID : 264330103973

Option 1 ID : 264330408195

Option 2 ID : 264330408196

Option 3 ID : 264330408194

Option 4 ID : 264330408193

Status : Answered

Chosen Option : 4

Q.46 नीचे दी गई तालिका 4 विक्रेताओं द्वारा बेचे गए लैपटॉप की संख्या तथा बेचे गए ब्रांड 1 लैपटॉप और बेचे गए ब्रांड 2 लैपटॉप का अनुपात दर्शाती है।

विक्रेता	बेचे गए कुल लैपटॉप	बेचे गए ब्रांड 1 लैपटॉप : बेचे गए ब्रांड 2 लैपटॉप
A	4000	3 : 1
B	6000	2 : 1
C	8000	5 : 3
D	5000	1 : 4

A विक्रेता द्वारा बेचे गए ब्रांड 1 लैपटॉप की संख्या B विक्रेता द्वारा बेचे गए ब्रांड 2 लैपटॉप की संख्या से कितनी अधिक है?

- Ans
- 1. 800
  - 2. 600
  - 3. 1000
  - 4. 1200

Question ID : 264330167245  
Option 1 ID : 264330655976  
Option 2 ID : 264330655975  
Option 3 ID : 264330655978  
Option 4 ID : 264330655977  
Status : Answered  
Chosen Option : 3

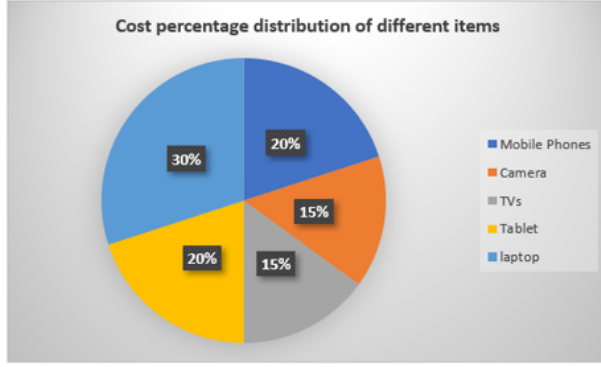
Q.47 8 छात्रों का औसत वजन 48 kg है। यदि 44 kg औसत वजन वाले चार छात्रों, और 58 kg औसत वजन वाले चार छात्रों को भी शामिल कर लिया जाए, तो 16 छात्रों का औसत वजन ज्ञात करें।

- Ans
- 1. 48.5 kg
  - 2. 49 kg
  - 3. 48 kg
  - 4. 49.5 kg

Question ID : 264330165520  
Option 1 ID : 264330649161  
Option 2 ID : 264330649160  
Option 3 ID : 264330649159  
Option 4 ID : 264330649162  
Status : Answered  
Chosen Option : 4



Q.48 दिए गए ग्राफ का अध्ययन कीजिए और उसके बाद पूछे गए प्रश्न का उत्तर दीजिए।  
निम्नांकित ग्राफ विभिन्न वस्तुओं के लागत प्रतिशत के वितरण को दर्शाता है।



Cost percentage distribution of different items =

विभिन्न वस्तुओं का लागत प्रतिशत बंटन Mobile Phones = मोबाइल फोन,

Camera = कैमरा, TVs = टी.वी., Tablet = टेबलेट, laptop = लैपटॉप

यदि किसी व्यक्ति ने सभी वस्तुएँ ₹3,00,000 में खरीदीं, तो एक टी.वी. की लागत, लैपटॉप के लागत की तुलना में \_\_\_\_\_ कम है।

Ans ✓ 1. ₹45,000

✗ 2. ₹40,000

✗ 3. ₹55,000

✗ 4. ₹50,000

Question ID : 264330157065

Option 1 ID : 264330615632

Option 2 ID : 264330615633

Option 3 ID : 264330615634

Option 4 ID : 264330615631

Status : Answered

Chosen Option : 1

Q.49 यदि  $\sin \beta = \frac{1}{3}$  है, तो  $(\sec \beta - \tan \beta)^2$  किसके बराबर है?

Ans ✗ 1.  $\frac{2}{3}$

✓ 2.  $\frac{1}{2}$

✗ 3.  $\frac{1}{3}$

✗ 4.  $\frac{3}{4}$

Question ID : 264330145128

Option 1 ID : 264330568768

Option 2 ID : 264330568770

Option 3 ID : 264330568767

Option 4 ID : 264330568769

Status : Answered

Chosen Option : 2

Q.50 ₹z के अंकित मूल्य वाली एक वस्तु को 12% की छूट देने के बाद ₹6,622 में बेचा गया। Z का मान कितना था?

- Ans  1. ₹7,500  
 2. ₹7,575  
 3. ₹7,525  
 4. ₹7,425

Question ID : 264330131159  
Option 1 ID : 264330513748  
Option 2 ID : 264330513749  
Option 3 ID : 264330513747  
Option 4 ID : 264330513750  
Status : Answered  
Chosen Option : 3

Section : English Comprehension

Q.1 Select the option that can be used as a one-word substitute for the given phrase.

One who goes from place to place, begging

- Ans  1. Meticulous  
 2. Mendicant  
 3. Malleable  
 4. Misogamist

Question ID : 26433073742  
Option 1 ID : 264330289109  
Option 2 ID : 264330289108  
Option 3 ID : 264330289110  
Option 4 ID : 264330289111  
Status : Answered  
Chosen Option : 2

Q.2 Select the most appropriate ANTONYM of the given word.  
Authentic

- Ans  1. Different  
 2. Genuine  
 3. Fake  
 4. Basic

Question ID : 264330164169  
Option 1 ID : 264330643929  
Option 2 ID : 264330643927  
Option 3 ID : 264330643930  
Option 4 ID : 264330643928  
Status : Answered  
Chosen Option : 3

**Q.3** Select the most appropriate meaning of the given idiom.  
**Apple of discord**

- Ans**  1. Bone of contention  
 2. Distant love  
 3. Practical  
 4. Centre of attraction

Question ID : 264330141095  
Option 1 ID : 264330552727  
Option 2 ID : 264330552729  
Option 3 ID : 264330552730  
Option 4 ID : 264330552728  
Status : Answered  
Chosen Option : 1

**Q.4** Select the option that best expresses the meaning of the underlined idiom.  
Christy should discuss this with her face to face.

- Ans**  1. Come to fully accept or understand something  
 2. Remained normal and realistic  
 3. Almost always  
 4. With another person in their presence rather than, say, by phone or letter

Question ID : 264330136000  
Option 1 ID : 264330532839  
Option 2 ID : 264330532842  
Option 3 ID : 264330532840  
Option 4 ID : 264330532841  
Status : Answered  
Chosen Option : 1

**Q.5** Select the option that can be used as a one-word substitute for the given group of words.  
To tell the nature of a disease by its symptoms.

- Ans**  1. Design  
 2. Diagnosis  
 3. Dosage  
 4. Decisive

Question ID : 26433088804  
Option 1 ID : 264330348771  
Option 2 ID : 264330348770  
Option 3 ID : 264330348772  
Option 4 ID : 264330348769  
Status : Answered  
Chosen Option : 2

**Q.6** Select the most appropriate option that can substitute the underlined segment in the given sentence.

Rajib's habit of sneering at the beliefs of others often hurts others' sentiments.

- Ans
- 1. manipulation
  - 2. cynicism
  - 3. certainty
  - 4. cleverness

Question ID : 26433070593  
Option 1 ID : 264330276837  
Option 2 ID : 264330276839  
Option 3 ID : 264330276836  
Option 4 ID : 264330276838  
Status : Answered  
Chosen Option : 2

**Q.7** Select the most appropriate option that can substitute the underlined segment in the given sentence.

You can become confident to speak English within one year.

- Ans
- 1. reassured of speaking
  - 2. confident in speaking
  - 3. convinced to speaking
  - 4. assured of speaking

Question ID : 26433098973  
Option 1 ID : 264330388543  
Option 2 ID : 264330388544  
Option 3 ID : 264330388542  
Option 4 ID : 264330388541  
Status : Answered  
Chosen Option : 2

**Q.8** Select the most appropriate meaning of the given idiom.

Fit as a fiddle

- Ans
- 1. In good health
  - 2. To betray a close person
  - 3. To ignore what someone is saying
  - 4. At the last moment

Question ID : 26433091831  
Option 1 ID : 264330360661  
Option 2 ID : 264330360664  
Option 3 ID : 264330360663  
Option 4 ID : 264330360662  
Status : Answered  
Chosen Option : 1

**Q.9** Select the most appropriate option that can substitute the underlined segment in the given sentence. If there is no need to substitute it, select 'No substitution required'.  
Politics and money go together in this country.

- Ans**
- 1. go arm in arm
  - 2. go hand in hand
  - 3. No substitution required
  - 4. go holding hands

Question ID : 264330117195  
Option 1 ID : 264330460842  
Option 2 ID : 264330460843  
Option 3 ID : 264330460844  
Option 4 ID : 264330460841  
Status : Answered  
Chosen Option : 2

**Q.10** Fill in the blank by selecting the meaningful and correctly spelt word from the given options.

They knew that the stock of the food was getting reduced and the fund \_\_\_\_\_ for that was not enough for the next week.

- Ans**
- 1. allotted
  - 2. alerted
  - 3. abandoned
  - 4. asserted

Question ID : 26433059538  
Option 1 ID : 264330233003  
Option 2 ID : 264330233001  
Option 3 ID : 264330233002  
Option 4 ID : 264330233000  
Status : Answered  
Chosen Option : 1

**Q.11** Select the INCORRECTLY spelt word in the given sentence.

It is beyond my cognitive capacity to solve the mathematical problems.

- Ans**
- 1. mathematical
  - 2. cognitive
  - 3. capacity
  - 4. problems

Question ID : 264330163432  
Option 1 ID : 264330641004  
Option 2 ID : 264330641003  
Option 3 ID : 264330641006  
Option 4 ID : 264330641005  
Status : Answered  
Chosen Option : 3

**Q.12** The following sentence has been split into four segments. Identify the segment that contains a grammatical error.

The students / are expected / to come / in the right time.

- Ans
- 1. to come
  - 2. are expected
  - 3. in the right time
  - 4. The students

Question ID : 264330145283  
Option 1 ID : 264330569389  
Option 2 ID : 264330569388  
Option 3 ID : 264330569390  
Option 4 ID : 264330569387  
Status : Answered  
Chosen Option : 3

**Q.13** Select the most appropriate option that can substitute the underlined segment in the given sentence.  
We all should respect each other.

- Ans
- 1. all of us
  - 2. every other
  - 3. all other
  - 4. one another

Question ID : 26433084644  
Option 1 ID : 264330332348  
Option 2 ID : 264330332346  
Option 3 ID : 264330332347  
Option 4 ID : 264330332345  
Status : Answered  
Chosen Option : 4

**Q.14** The following sentence has been divided into parts. One of them may contain an error. Select the part that contains the error from the given options. If you don't find any error, mark 'No error' as your answer.  
We will / have been know the result / of the CAT exam by next week.

- Ans
- 1. No error
  - 2. have been know the result
  - 3. We will
  - 4. of the CAT exam by next week

Question ID : 26433059005  
Option 1 ID : 264330230911  
Option 2 ID : 264330230909  
Option 3 ID : 264330230908  
Option 4 ID : 264330230910  
Status : Answered  
Chosen Option : 2

**Q.15** Select the most appropriate meaning of the given idiom.

**Come what may**

- Ans**
- 1. To get frightened
  - 2. Meeting someone
  - 3. No matter what happens
  - 4. To be among the latest

Question ID : 26433091883  
Option 1 ID : 264330360872  
Option 2 ID : 264330360869  
Option 3 ID : 264330360870  
Option 4 ID : 264330360871  
Status : Answered  
Chosen Option : 3

**Q.16** Select the most appropriate synonym of the highlighted word in the given sentence.

**The plane crash was a harrowing experience for everyone involved.**

- Ans**
- 1. Exterminate
  - 2. Awesome
  - 3. Sad
  - 4. Excruciating

Question ID : 264330108891  
Option 1 ID : 264330427844  
Option 2 ID : 264330427842  
Option 3 ID : 264330427843  
Option 4 ID : 264330427841  
Status : Answered  
Chosen Option : 3

**Q.17** Select the most appropriate one-word substitution of the given group of words.

**A form of government in which the supreme power is vested in the people and exercised by their elected agents under a free electoral system.**

- Ans**
- 1. Anarchy
  - 2. Autocracy
  - 3. Democracy
  - 4. Monarchy

Question ID : 26433090856  
Option 1 ID : 264330356835  
Option 2 ID : 264330356833  
Option 3 ID : 264330356834  
Option 4 ID : 264330356836  
Status : Answered  
Chosen Option : 3

**Q.18** Select the most appropriate meaning of the underlined word.  
She has no desire for money.

- Ans
- 1. Disgust
  - 2. Despise
  - 3. Care
  - 4. Wish

Question ID : 264330121036  
Option 1 ID : 264330474352  
Option 2 ID : 264330474351  
Option 3 ID : 264330474354  
Option 4 ID : 264330474353  
Status : Answered  
Chosen Option : 4

**Q.19** Select the most appropriate ANTONYM of the underlined word in the given sentence.

After losing his job and his home, he found himself destitute and living on the streets.

- Ans
- 1. ridiculous
  - 2. disturbed
  - 3. glorious
  - 4. affluent

Question ID : 264330164568  
Option 1 ID : 264330645459  
Option 2 ID : 264330645462  
Option 3 ID : 264330645460  
Option 4 ID : 264330645461  
Status : Answered  
Chosen Option : 4

**Q.20** The following sentence has been divided into parts. One of them may contain an error.  
Select the part that contains the error from the given options. If you don't find any error, mark 'No error' as your answer.

My elder brother / yesterday had took / my Facebook password.

- Ans
- 1. yesterday had took
  - 2. my Facebook password
  - 3. My elder brother
  - 4. No error

Question ID : 26433073526  
Option 1 ID : 264330288253  
Option 2 ID : 264330288254  
Option 3 ID : 264330288252  
Option 4 ID : 264330288255  
Status : Answered  
Chosen Option : 1



**Q.21** Identify the option that rectifies the spelling of the incorrectly spelt word in the given sentence.

Students should have a good vocabulary to write an essay efectively.

- Ans
- 1. Write
  - 2. Gud
  - 3. Effectively
  - 4. Voicabulary

Question ID : 26433089015  
Option 1 ID : 264330349599  
Option 2 ID : 264330349600  
Option 3 ID : 264330349597  
Option 4 ID : 264330349598  
Status : Answered  
Chosen Option : 3

**Q.22** Select the INCORRECTLY spelt word from the underlined words in the following sentence.

It is important to see school holistically, it is not a set of atomic items of rooms, library, assembly halls, canteen and playgrounds; it is all of these but in symbiotic relationship with each other, the contors of which are often far too obvious and often simply mysterious.

- Ans
- 1. symbiotic
  - 2. mysterious
  - 3. contors
  - 4. holistically

Question ID : 264330141158  
Option 1 ID : 264330552976  
Option 2 ID : 264330552978  
Option 3 ID : 264330552977  
Option 4 ID : 264330552975  
Status : Answered  
Chosen Option : 4

**Q.23** Select the most appropriate synonym of the word 'factual' in the given sentence and choose the correct option.

The scientist's hypothesis was based on empirical evidence and rigorous experimentation.

- Ans
- 1. Empirical
  - 2. Hypothesis
  - 3. Evidence
  - 4. Rigorous

Question ID : 264330163535  
Option 1 ID : 264330641396  
Option 2 ID : 264330641395  
Option 3 ID : 264330641398  
Option 4 ID : 264330641397  
Status : Answered  
Chosen Option : 3

**Q.24** Select the most appropriate ANTONYM of the given word.  
**Inquisitive**

- Ans  1. Curious  
 2. Studious  
 3. Indifferent  
 4. Innocent

Question ID : 264330165247  
Option 1 ID : 264330648087  
Option 2 ID : 264330648089  
Option 3 ID : 264330648090  
Option 4 ID : 264330648088  
Status : Answered  
Chosen Option : 3

**Q.25** Select the most appropriate meaning of the underlined word.  
She has become a familiar figure in the world of politics.

- Ans  1. Fancy  
 2. Elevated  
 3. Known  
 4. Legend

Question ID : 264330121037  
Option 1 ID : 264330474355  
Option 2 ID : 264330474358  
Option 3 ID : 264330474356  
Option 4 ID : 264330474357  
Status : Answered  
Chosen Option : 3

**Q.26** Select the most appropriate meaning of the given idiom.  
**Break a leg**

- Ans  1. To love someone  
 2. To avoid someone  
 3. To wish someone good luck  
 4. To hurt someone

Question ID : 264330117234  
Option 1 ID : 264330460996  
Option 2 ID : 264330460994  
Option 3 ID : 264330460995  
Option 4 ID : 264330460993  
Status : Answered  
Chosen Option : 3

**Q.27** Select the most appropriate ANTONYM of the underlined word.  
He is so stingy that I have never seen him spending money on basic necessities.

- Ans
- 1. Obnoxious
  - 2. Wicked
  - 3. Extravagant
  - 4. Indecent

Question ID : 264330121873  
Option 1 ID : 264330477651  
Option 2 ID : 264330477652  
Option 3 ID : 264330477654  
Option 4 ID : 264330477653  
Status : Answered  
Chosen Option : 3

**Q.28** Select the most appropriate meaning of the underlined idiom.  
Sanchit stands by his friends through thick and thin .

- Ans
- 1. Under all circumstances
  - 2. In favourable situations
  - 3. In winter and summer
  - 4. In crowded areas

Question ID : 264330122977  
Option 1 ID : 264330481971  
Option 2 ID : 264330481972  
Option 3 ID : 264330481974  
Option 4 ID : 264330481973  
Status : Answered  
Chosen Option : 1

**Q.29** Select the most appropriate synonym of the given word.

**Reminiscence**

- Ans
- 1. Benevolence
  - 2. Harsh
  - 3. Oblivion
  - 4. Remembrance

Question ID : 264330163372  
Option 1 ID : 264330640775  
Option 2 ID : 264330640776  
Option 3 ID : 264330640777  
Option 4 ID : 264330640778  
Status : Answered  
Chosen Option : 4

**Q.30** Select the most appropriate synonym of the given word.  
**Rehabilitate**

- Ans
- 1. Absolve
  - 2. Decline
  - 3. Develop
  - 4. Reinstall

Question ID : 264330117194  
Option 1 ID : 264330460838  
Option 2 ID : 264330460839  
Option 3 ID : 264330460840  
Option 4 ID : 264330460837  
Status : Answered  
Chosen Option : 4

**Q.31** Select the most appropriate option that can substitute the underlined segment in the given sentence.

The decision to engage in an armed conflict is tacit.

- Ans
- 1. implied without being stated
  - 2. regretted by everyone
  - 3. ineffective completely
  - 4. incomprehensible for some

Question ID : 26433099887  
Option 1 ID : 264330392139  
Option 2 ID : 264330392137  
Option 3 ID : 264330392138  
Option 4 ID : 264330392140  
Status : Answered  
Chosen Option : 1

**Q.32** Select the option that can be used as a one-word substitute for the given group of words.

A book published after author's death.

- Ans
- 1. Predecessor publication
  - 2. Posthuman publication
  - 3. Posthumous publication
  - 4. Supernatural publication

Question ID : 26433088809  
Option 1 ID : 264330348792  
Option 2 ID : 264330348789  
Option 3 ID : 264330348790  
Option 4 ID : 264330348791  
Status : Answered  
Chosen Option : 3

**Q.33** Select the most appropriate meaning of the given idiom.  
To hit the nail on the head

- Ans** ✓ 1. To express an idea with great precision  
✗ 2. To be indecisive  
✗ 3. To miss an opportunity  
✗ 4. To hit something accurately

Question ID : 264330140553  
Option 1 ID : 264330550567  
Option 2 ID : 264330550570  
Option 3 ID : 264330550569  
Option 4 ID : 264330550568  
Status : Answered  
Chosen Option : 4

**Q.34** Select the option that can be used as a one-word substitute for the given group of words.

Centre of public attention

- Ans** ✓ 1. Limelight  
✗ 2. Obscurity  
✗ 3. Ambiguity  
✗ 4. Fuzziness

Question ID : 26433088968  
Option 1 ID : 264330349410  
Option 2 ID : 264330349409  
Option 3 ID : 264330349412  
Option 4 ID : 264330349411  
Status : Answered  
Chosen Option : 1

**Q.35** Select the most appropriate meaning of the given idiom.  
Fit as a fiddle

- Ans** ✓ 1. To be in good health  
✗ 2. To be extremely excited and energetic  
✗ 3. A good and useful invention  
✗ 4. Something is perfect

Question ID : 264330164175  
Option 1 ID : 264330643951  
Option 2 ID : 264330643953  
Option 3 ID : 264330643952  
Option 4 ID : 264330643954  
Status : Answered  
Chosen Option : 1

**Q.36** Select the most appropriate option that can substitute the underlined segment in the given sentence. If there is no need to substitute it, select 'No substitution required'  
The unexpected turn beside the project put the company in a big financial crisis.

- Ans
- 1. between the project
  - 2. No substitution required
  - 3. until the project
  - 4. in the project

Question ID : 264330117212  
Option 1 ID : 264330460910  
Option 2 ID : 264330460912  
Option 3 ID : 264330460911  
Option 4 ID : 264330460909  
Status : Answered  
Chosen Option : 4

**Q.37** Select the most appropriate option that can substitute the underlined word which has been incorrectly spelt.  
Mrs. Lal taught me English gramar.

- Ans
- 1. gramerr
  - 2. gramer
  - 3. gramarr
  - 4. grammar

Question ID : 264330123044  
Option 1 ID : 264330482240  
Option 2 ID : 264330482242  
Option 3 ID : 264330482239  
Option 4 ID : 264330482241  
Status : Answered  
Chosen Option : 4

**Q.38** Select the most appropriate option that can substitute the underlined segment in the given sentence.

The book narrated the athlete's prowes in a lucid manner.

- Ans
- 1. refined arguments
  - 2. exceptional mastery
  - 3. difficult situation
  - 4. affluent days

Question ID : 26433099883  
Option 1 ID : 264330392123  
Option 2 ID : 264330392121  
Option 3 ID : 264330392122  
Option 4 ID : 264330392124  
Status : Answered  
Chosen Option : 3

**Q.39** The following sentence has been split into four segments. Identify the segment that contains an error.

Will Ramya / had completed / that work / by 2025?

- Ans
- 1. by 2025
  - 2. had completed
  - 3. Will Ramya
  - 4. that work

Question ID : 26433088292  
Option 1 ID : 264330346764  
Option 2 ID : 264330346762  
Option 3 ID : 264330346761  
Option 4 ID : 264330346763  
Status : Answered  
Chosen Option : 2

**Q.40** Select the most appropriate meaning of the underlined phrase.  
She can't make up her mind where to go for her summer vacation.

- Ans
- 1. Engage her mind in creative activities
  - 2. Decide on a suitable parlour
  - 3. Decide how to do her makeup
  - 4. Decide between alternatives or come to a decision

Question ID : 264330139841  
Option 1 ID : 264330547762  
Option 2 ID : 264330547761  
Option 3 ID : 264330547759  
Option 4 ID : 264330547760  
Status : Answered  
Chosen Option : 4

**Comprehension:**

In the following passage some words have been deleted. Read the passage carefully and select the most appropriate option to fill in each blank.

Swans are large waterbirds that (1) \_\_\_\_\_ to the family Anatidae, which also includes ducks and geese. They (2) \_\_\_\_\_ for their beauty and grace and are often used as symbols of love, fidelity, and elegance. They are also famous for their (3) \_\_\_\_\_ features, such as their long necks, large wingspans, and striking white feathers. (4) \_\_\_\_\_, not all swan species are white; the Black Swan, (5) \_\_\_\_\_, has black feathers with a red bill. Swans are found on every continent and are known for their strong pair bonds. They mate for life and can live up to 20 years.

**SubQuestion No : 41**

**Q.41** Select the most appropriate option to fill in blank number 1.

- Ans
- 1. belonged
  - 2. belong
  - 3. belonging
  - 4. belongs

Question ID : 264330163346  
Option 1 ID : 264330640678  
Option 2 ID : 264330640676  
Option 3 ID : 264330640677  
Option 4 ID : 264330640675  
Status : Answered  
Chosen Option : 2

**Comprehension:**

In the following passage some words have been deleted. Read the passage carefully and select the most appropriate option to fill in each blank.

Swans are large waterbirds that (1) \_\_\_\_\_ to the family Anatidae, which also includes ducks and geese. They (2) \_\_\_\_\_ for their beauty and grace and are often used as symbols of love, fidelity, and elegance. They are also famous for their (3) \_\_\_\_\_ features, such as their long necks, large wingspans, and striking white feathers. (4) \_\_\_\_\_, not all swan species are white; the Black Swan, (5) \_\_\_\_\_, has black feathers with a red bill. Swans are found on every continent and are known for their strong pair bonds. They mate for life and can live up to 20 years.

**SubQuestion No : 42**

**Q.42 Select the most appropriate option to fill in blank number 2.**

- Ans  1. have knowing  
 2. are known  
 3. had know  
 4. were known

Question ID : 264330163347

Option 1 ID : 264330640681

Option 2 ID : 264330640679

Option 3 ID : 264330640682

Option 4 ID : 264330640680

Status : Answered

Chosen Option : 2

**Comprehension:**

In the following passage some words have been deleted. Read the passage carefully and select the most appropriate option to fill in each blank.

Swans are large waterbirds that (1) \_\_\_\_\_ to the family Anatidae, which also includes ducks and geese. They (2) \_\_\_\_\_ for their beauty and grace and are often used as symbols of love, fidelity, and elegance. They are also famous for their (3) \_\_\_\_\_ features, such as their long necks, large wingspans, and striking white feathers. (4) \_\_\_\_\_, not all swan species are white; the Black Swan, (5) \_\_\_\_\_, has black feathers with a red bill. Swans are found on every continent and are known for their strong pair bonds. They mate for life and can live up to 20 years.

**SubQuestion No : 43**

**Q.43 Select the most appropriate option to fill in blank number 3.**

- Ans  1. distinctive  
 2. popular  
 3. finite  
 4. similar

Question ID : 264330163348

Option 1 ID : 264330640686

Option 2 ID : 264330640684

Option 3 ID : 264330640685

Option 4 ID : 264330640683

Status : Answered

Chosen Option : 1



**Comprehension:**

In the following passage some words have been deleted. Read the passage carefully and select the most appropriate option to fill in each blank.

Swans are large waterbirds that (1) \_\_\_\_\_ to the family Anatidae, which also includes ducks and geese. They (2) \_\_\_\_\_ for their beauty and grace and are often used as symbols of love, fidelity, and elegance. They are also famous for their (3) \_\_\_\_\_ features, such as their long necks, large wingspans, and striking white feathers. (4) \_\_\_\_\_, not all swan species are white; the Black Swan, (5) \_\_\_\_\_, has black feathers with a red bill. Swans are found on every continent and are known for their strong pair bonds. They mate for life and can live up to 20 years.

**SubQuestion No : 44**

**Q.44** Select the most appropriate option to fill in blank number 4.

- Ans
- 1. Consequently
  - 2. Formerly
  - 3. However
  - 4. Because

Question ID : 264330163349

Option 1 ID : 264330640689

Option 2 ID : 264330640687

Option 3 ID : 264330640688

Option 4 ID : 264330640690

Status : Answered

Chosen Option : 3

**Comprehension:**

In the following passage some words have been deleted. Read the passage carefully and select the most appropriate option to fill in each blank.

Swans are large waterbirds that (1) \_\_\_\_\_ to the family Anatidae, which also includes ducks and geese. They (2) \_\_\_\_\_ for their beauty and grace and are often used as symbols of love, fidelity, and elegance. They are also famous for their (3) \_\_\_\_\_ features, such as their long necks, large wingspans, and striking white feathers. (4) \_\_\_\_\_, not all swan species are white; the Black Swan, (5) \_\_\_\_\_, has black feathers with a red bill. Swans are found on every continent and are known for their strong pair bonds. They mate for life and can live up to 20 years.

**SubQuestion No : 45**

**Q.45** Select the most appropriate option to fill in blank number 5.

- Ans
- 1. for example
  - 2. of course
  - 3. in addition
  - 4. after all

Question ID : 264330163350

Option 1 ID : 264330640693

Option 2 ID : 264330640694

Option 3 ID : 264330640692

Option 4 ID : 264330640691

Status : Answered

Chosen Option : 1

**Comprehension:**

Read the given passage carefully and answer the questions that follow.

As the world's population approaches 8 billion and resource use intensifies, pollution is ever more extensive, pervasive, and persistent. It affects our health through the food we eat, the water we drink and the air we breathe. By 2025, the world's cities will produce 2.2 billion tonnes of waste every year, more than three times the amount produced in 2009. That said, pollution is not a new phenomenon and is largely controllable and often avoidable, as shown in some countries and cities that have succeeded in decoupling economic growth from pollution and waste accumulation.

With the end goal to eradicate all forms of pollution by 2030, the UN Environment Programme was tasked by the UN Environment Assembly to coordinate the implementation of a global plan reiterating that pollution is not only an environmental priority, it's a priority for the achievement of the Sustainable Development Goals.

**SubQuestion No : 46**

**Q.46** What is the ANTONYM for the word 'pervasive' from the passage?

- Ans  1. Limited  
 2. Offensive  
 3. Clear  
 4. Emotional

Question ID : 264330164715

Option 1 ID : 264330646012

Option 2 ID : 264330646011

Option 3 ID : 264330646014

Option 4 ID : 264330646013

Status : Answered

Chosen Option : 2

**Comprehension:**

Read the given passage carefully and answer the questions that follow.

As the world's population approaches 8 billion and resource use intensifies, pollution is ever more extensive, pervasive, and persistent. It affects our health through the food we eat, the water we drink and the air we breathe. By 2025, the world's cities will produce 2.2 billion tonnes of waste every year, more than three times the amount produced in 2009. That said, pollution is not a new phenomenon and is largely controllable and often avoidable, as shown in some countries and cities that have succeeded in decoupling economic growth from pollution and waste accumulation.

With the end goal to eradicate all forms of pollution by 2030, the UN Environment Programme was tasked by the UN Environment Assembly to coordinate the implementation of a global plan reiterating that pollution is not only an environmental priority, it's a priority for the achievement of the Sustainable Development Goals.

**SubQuestion No : 47**

**Q.47** What is the ANTONYM for the word 'priority' from the passage?

- Ans  1. Part  
 2. Last  
 3. Factor  
 4. Task

Question ID : 264330164717

Option 1 ID : 264330646022

Option 2 ID : 264330646019

Option 3 ID : 264330646021

Option 4 ID : 264330646020

Status : Answered

Chosen Option : 2

**Comprehension:**

Read the given passage carefully and answer the questions that follow.

As the world's population approaches 8 billion and resource use intensifies, pollution is ever more extensive, pervasive, and persistent. It affects our health through the food we eat, the water we drink and the air we breathe. By 2025, the world's cities will produce 2.2 billion tonnes of waste every year, more than three times the amount produced in 2009. That said, pollution is not a new phenomenon and is largely controllable and often avoidable, as shown in some countries and cities that have succeeded in decoupling economic growth from pollution and waste accumulation.

With the end goal to eradicate all forms of pollution by 2030, the UN Environment Programme was tasked by the UN Environment Assembly to coordinate the implementation of a global plan reiterating that pollution is not only an environmental priority, it's a priority for the achievement of the Sustainable Development Goals.

**SubQuestion No : 48**

**Q.48 Which of the following most accurately states the central idea of the passage?**

- Ans**  1. United Nations  
 2. Pollution free planet  
 3. Population explosion  
 4. Economic growth

Question ID : 264330164713

Option 1 ID : 264330646003

Option 2 ID : 264330646006

Option 3 ID : 264330646005

Option 4 ID : 264330646004

Status : Answered

Chosen Option : 3

**Comprehension:**

Read the given passage carefully and answer the questions that follow.

As the world's population approaches 8 billion and resource use intensifies, pollution is ever more extensive, pervasive, and persistent. It affects our health through the food we eat, the water we drink and the air we breathe. By 2025, the world's cities will produce 2.2 billion tonnes of waste every year, more than three times the amount produced in 2009. That said, pollution is not a new phenomenon and is largely controllable and often avoidable, as shown in some countries and cities that have succeeded in decoupling economic growth from pollution and waste accumulation.

With the end goal to eradicate all forms of pollution by 2030, the UN Environment Programme was tasked by the UN Environment Assembly to coordinate the implementation of a global plan reiterating that pollution is not only an environmental priority, it's a priority for the achievement of the Sustainable Development Goals.

**SubQuestion No : 49**

**Q.49 Which of the following represents the structure of the passage?**

- Ans**  1. Cause-effect  
 2. Critique  
 3. Chronology  
 4. Definition

Question ID : 264330164716

Option 1 ID : 264330646015

Option 2 ID : 264330646018

Option 3 ID : 264330646017

Option 4 ID : 264330646016

Status : Answered

Chosen Option : 1

**Comprehension:**

Read the given passage carefully and answer the questions that follow.

As the world's population approaches 8 billion and resource use intensifies, pollution is ever more extensive, pervasive, and persistent. It affects our health through the food we eat, the water we drink and the air we breathe. By 2025, the world's cities will produce 2.2 billion tonnes of waste every year, more than three times the amount produced in 2009. That said, pollution is not a new phenomenon and is largely controllable and often avoidable, as shown in some countries and cities that have succeeded in decoupling economic growth from pollution and waste accumulation.

With the end goal to eradicate all forms of pollution by 2030, the UN Environment Programme was tasked by the UN Environment Assembly to coordinate the implementation of a global plan reiterating that pollution is not only an environmental priority, it's a priority for the achievement of the Sustainable Development Goals.

**SubQuestion No : 50**

**Q.50** Which is the best description of the tone of the passage?

- Ans
- 1. Technical
  - 2. Dogmatic
  - 3. Sarcastic
  - 4. Humanistic

Question ID : 264330164714

Option 1 ID : 264330646009

Option 2 ID : 264330646010

Option 3 ID : 264330646008

Option 4 ID : 264330646007

Status : Answered

Chosen Option : 4

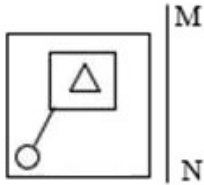
KD JOB UPDATES

**Sub Inspector in Delhi Police and Central Armed Police Forces Examination 2023**  
**Paper I**

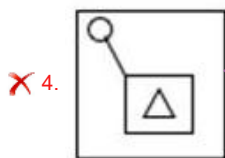
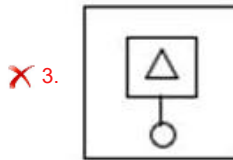
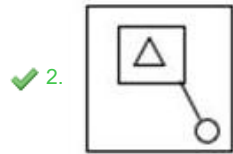
Roll Number	www.KD JOB UPDATES
Candidate Name	www.KD JOB UPDATES
Venue Name	City Law College
Exam Date	05/10/2023
Exam Time	12:30 PM - 2:30 PM
Subject	SICPO Paper I 2023

Section : General Intelligence and Reasoning

Q.1 जब दर्पण को रेखा MN पर रखा जाता है, तो दी गई आकृति का सही दर्पण प्रतिबिंब ज्ञात कीजिए।



Ans



Question ID : 26433056629

Option 1 ID : 264330221502

Option 2 ID : 264330221503

Option 3 ID : 264330221500

Option 4 ID : 264330221501

Status : Answered

Chosen Option : 2

Q.2 निम्नलिखित में से कौन-सा पद दी गई श्रृंखला में प्रश्नवाचक चिह्न (?) का स्थान लेगा?

EQUE ? GOWC HNXB IMYA

- Ans  1. FEVD  
 2. FPVD  
 3. FIVD  
 4. FDVD

Question ID : 26433085321  
Option 1 ID : 264330334988  
Option 2 ID : 264330334987  
Option 3 ID : 264330334986  
Option 4 ID : 264330334985  
Status : Answered  
Chosen Option : 2

Q.3 यदि '+' का अर्थ '-' है, '-' का अर्थ '+' है, '÷' का अर्थ 'x' है और 'x' का अर्थ '÷' है, तो दिए गए समीकरण में प्रश्नवाचक चिह्न (?) के स्थान पर क्या आएगा?  
 $300 - 2 + 50 \times 3 \div 2 = ?$

- Ans  1. 106  
 2. 61  
 3. 23  
 4. 661

Question ID : 264330114253  
Option 1 ID : 264330449097  
Option 2 ID : 264330449098  
Option 3 ID : 264330449100  
Option 4 ID : 264330449099  
Status : Answered  
Chosen Option : 1

Q.4 एम्स्टर्डम, बार्सिलोना के दक्षिण में स्थित है। म्यूनिख, एम्स्टर्डम के पश्चिम में स्थित है। डेट्रॉइट, म्यूनिख के पूर्व में स्थित है। टोरंटो, डेट्रॉइट के दक्षिण में, और बार्सिलोना के दक्षिण-पूर्व में स्थित है। डेट्रॉइट के सापेक्ष एम्स्टर्डम की स्थिति क्या है?

- Ans  1. पश्चिम  
 2. उत्तर  
 3. दक्षिण  
 4. पूर्व

Question ID : 26433068155  
Option 1 ID : 264330267133  
Option 2 ID : 264330267134  
Option 3 ID : 264330267135  
Option 4 ID : 264330267132  
Status : Answered  
Chosen Option : 1

Q.5 दो कथन दिए गए हैं, जिसके बाद दो निष्कर्ष I और II दिए गए हैं। कथनों को सत्य मानते हुए, भले ही वे सामान्य रूप से ज्ञात तथ्यों से भिन्न प्रतीत होते हों, निर्णय लें कि कौन-से निष्कर्ष कथनों का तार्किक रूप से पालन करते हैं?

कथन:

सभी कार्डियोलॉजिस्ट डॉक्टर हैं।

कुछ कार्डियोलॉजिस्ट न्यूरोलॉजिस्ट हैं।

निष्कर्ष:

I) कुछ डॉक्टर कार्डियोलॉजिस्ट हैं।

II) कुछ डॉक्टर न्यूरोलॉजिस्ट हैं।

- Ans
- 1. केवल निष्कर्ष I पालन करता है।
  - 2. केवल निष्कर्ष II पालन करता है।
  - 3. निष्कर्ष I और II दोनों पालन करते हैं।
  - 4. न तो निष्कर्ष I और न ही निष्कर्ष II पालन करता है।

Question ID : 26433067700

Option 1 ID : 264330265312

Option 2 ID : 264330265313

Option 3 ID : 264330265314

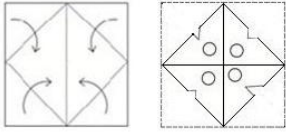
Option 4 ID : 264330265315

Status : Answered

Chosen Option : 3

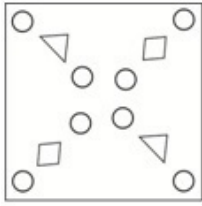
KD JOB UPDATES

Q.6 नीचे आकृति में दिखाए गए अनुसार एक कागज को मोड़ा और काटा जाता है। खोले जाने पर यह कैसा दिखेगा?

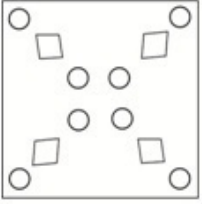


Ans

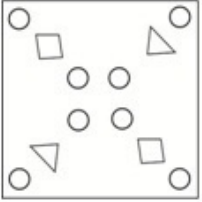
✓ 1.



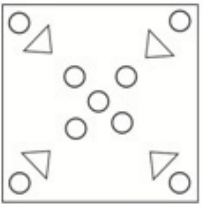
✗ 2.



✗ 3.



✗ 4.



Question ID : 26433040796  
 Option 1 ID : 264330159659  
 Option 2 ID : 264330159661  
 Option 3 ID : 264330159662  
 Option 4 ID : 264330159660

Status : Answered

Chosen Option : 2

Q.7 यदि A का अर्थ '+' है, B का अर्थ 'x' है, C का अर्थ '-' है और D का अर्थ '=' है, तो निम्नलिखित व्यंजक का मान क्या होगा?

$$17 B \ 3 \ A \ 14 \ D \ 7 \ C \ 5 = \ ?$$

Ans ✗ 1. 57

✓ 2. 48

✗ 3. 38

✗ 4. 29

Question ID : 26433085381  
 Option 1 ID : 264330335225  
 Option 2 ID : 264330335228  
 Option 3 ID : 264330335226  
 Option 4 ID : 264330335227

Status : Answered

Chosen Option : 2

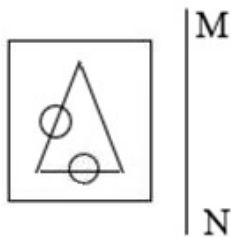


Q.8 उस विकल्प का चयन करें, जो तीसरे शब्द से उसी प्रकार संबंधित है, जिस प्रकार दूसरा शब्द पहले शब्द से संबंधित है। (शब्दों को अर्थपूर्ण शब्दों के रूप में माना जाना चाहिए, और इन्हें शब्द में अक्षरों की संख्या/व्यंजनों की संख्या/स्वरों की संख्या के आधार पर एक-दूसरे से संबद्ध नहीं किया जाना चाहिए।)  
पेंसिल (Pencil) : लीड (Lead) :: पेन (Pen) : ?

- Ans  1. स्याही (Ink)  
 2. गैस (Gas)  
 3. पानी (Water)  
 4. काला (Black)

Question ID : 26433087292  
Option 1 ID : 264330342808  
Option 2 ID : 264330342806  
Option 3 ID : 264330342807  
Option 4 ID : 264330342805  
Status : Answered  
Chosen Option : 1

Q.9 जब दर्पण को रेखा MN पर रखा जाता है, तो दी गई आकृति का सही दर्पण प्रतिबिंब ज्ञात कीजिए।

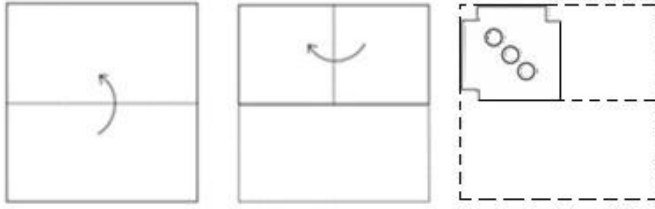


Ans

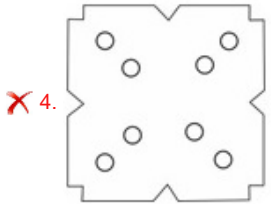
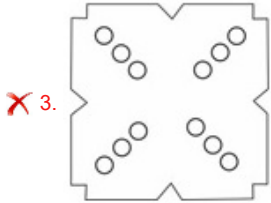
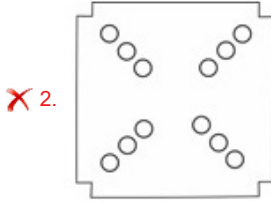
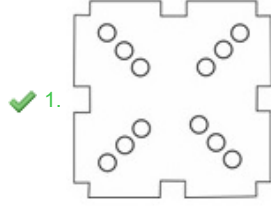
- 1.
- 2.
- 3.
- 4.

Question ID : 26433056628  
Option 1 ID : 264330221499  
Option 2 ID : 264330221496  
Option 3 ID : 264330221497  
Option 4 ID : 264330221498  
Status : Answered  
Chosen Option : 3

Q.10 नीचे आकृति में दिखाए गए अनुसार एक कागज को मोड़ा और काटा जाता है। खोले जाने पर यह कैसा दिखेगा?



Ans



KD JOB UPDATES

Question ID : 26433040797

Option 1 ID : 264330159664

Option 2 ID : 264330159663

Option 3 ID : 264330159665

Option 4 ID : 264330159666

Status : Answered

Chosen Option : 1

Q.11 छह छात्र P, Q, R, S, T और U किसी वृत्ताकार मेज के परितः केंद्र की ओर मुख करके बैठे हैं। R, T और U दोनों के ठीक बगल में है। P, U के दाईं ओर तीसरे स्थान पर बैठा है। Q, S के बाईं ओर ठीक बगल में बैठा है। S, P के दाईं ओर दूसरे स्थान पर बैठा है। R और S दोनों के ठीक बगल में कौन है?

Ans ✗ 1. P

✗ 2. T

✓ 3. U

✗ 4. Q

Question ID : 264330145420

Option 1 ID : 264330569936

Option 2 ID : 264330569937

Option 3 ID : 264330569938

Option 4 ID : 264330569935

Status : Marked For Review

Chosen Option : 1

Q.12 निम्नलिखित में से कौन-सी संख्या दी गई श्रृंखला में प्रश्न-चिह्न (?) का स्थान लेगी?

96, 12,  $\frac{3}{2}$ , ?,  $\frac{3}{128}$

Ans

✗ 1.  $\frac{3}{64}$

✗ 2.  $\frac{1}{128}$

✗ 3.  $\frac{3}{12}$

✓ 4.  $\frac{3}{16}$

Question ID : 26433092494

Option 1 ID : 264330363266

Option 2 ID : 264330363268

Option 3 ID : 264330363267

Option 4 ID : 264330363265

Status : Answered

Chosen Option : 4

Q.13 उस समुच्चय का चयन कीजिए जिसमें संख्याएँ आपस में उसी प्रकार संबंधित हैं जिस प्रकार निम्नलिखित समुच्चयों की संख्याएँ आपस में संबंधित हैं। (नोट: संख्याओं को उसके घटक अंकों में विभाजित किए बिना, पूर्ण संख्याओं पर गणितीय संक्रियाएँ की जानी चाहिए। उदाहरण के लिए 13 - गणितीय संक्रियाएँ जैसे कि जोड़ना/घटाना/गुणा करना इत्यादि 13 में किया जा सकता है। 13 को 1 और 3 में विभाजित करना और फिर 1 और 3 पर गणितीय संक्रियाएँ करने की अनुमति नहीं है।)  
(12, 14, 38)  
(6, 23, 35)

Ans

✗ 1. (19, 9, 38)

✗ 2. (4, 5, 20)

✓ 3. (16, 11, 43)

✗ 4. (8, 10, 24)

Question ID : 26433057452

Option 1 ID : 264330224793

Option 2 ID : 264330224792

Option 3 ID : 264330224795

Option 4 ID : 264330224794

Status : Answered

Chosen Option : 3

Q.14 एक निश्चित कूट भाषा में "BAKED" को "CCNII" लिखा जाता है, और "COOK" को "DQRO" लिखा जाता है। उसी कूट भाषा में "EATING" को किस प्रकार लिखा जाएगा?

Ans

✗ 1. FDVMMR

✓ 2. FCWMSM

✗ 3. GDXNTN

✗ 4. FCWMTM

Question ID : 26433070266

Option 1 ID : 264330275541

Option 2 ID : 264330275540

Option 3 ID : 264330275542

Option 4 ID : 264330275543

Status : Answered

Chosen Option : 2

Q.15 निम्नलिखित में से कौन-सी संख्याओं (अंक नहीं) की अदला-बदली दिए गए समीकरण को सही बनाएगी?

$$16 \times 5 \div 20 + 6 + 50 = 40$$

- Ans
- 1. 20, 40
  - 2. 40, 50
  - 3. 6, 40
  - 4. 5, 40

Question ID : 264330129640

Option 1 ID : 264330507927

Option 2 ID : 264330507929

Option 3 ID : 264330507926

Option 4 ID : 264330507928

Status : Answered

Chosen Option : 2

Q.16 दो कथन दिए गए हैं, जिसके बाद दो निष्कर्ष I और II दिए गए हैं। कथनों को सत्य मानते हुए, भले ही वे सामान्य रूप से ज्ञात तथ्यों से भिन्न प्रतीत होते हों, निर्णय लें कि कौन-से निष्कर्ष कथनों का तार्किक रूप से पालन करते हैं?

कथन:

सभी अभिनेता गायक हैं।

कुछ संगीतकार नर्तक हैं।

निष्कर्ष:

I) सभी नर्तक संगीतकार हैं।

II) कुछ गायक अभिनेता हैं।

- Ans
- 1. केवल निष्कर्ष I पालन करता है।
  - 2. निष्कर्ष I और II दोनों पालन करते हैं।
  - 3. केवल निष्कर्ष II पालन करता है।
  - 4. न तो निष्कर्ष I और न ही निष्कर्ष II पालन करता है।

Question ID : 26433067707

Option 1 ID : 264330265340

Option 2 ID : 264330265342

Option 3 ID : 264330265341

Option 4 ID : 264330265343

Status : Answered

Chosen Option : 3

Q.17 "A # B" का अर्थ है कि "A, B का भाई है"।

"A \* B" का अर्थ है कि "A, B की पत्नी है"।

"A \$ B" का अर्थ है कि "A, B की पुत्री है"।

"A = B" का अर्थ है कि "A, B का पिता है"।

यदि  $P * V \# D \$ B = Z$  है, तो B का P से क्या संबंध है?

- Ans
- 1. ससुर
  - 2. पिता
  - 3. भाई
  - 4. पत्नी

Question ID : 264330145386

Option 1 ID : 264330569802

Option 2 ID : 264330569799

Option 3 ID : 264330569801

Option 4 ID : 264330569800

Status : Answered

Chosen Option : 1

Q.18 यदि P का अर्थ 'x' है, Q का अर्थ '+' है, R का अर्थ '-' है, और S का अर्थ '÷' है तो निम्नलिखित समीकरण में '?' के स्थान पर क्या आएगा?

$$\sqrt{256} P 3 S 66 Q 11 P 5 R 43 = ?$$

- Ans
- 1. 69
  - 2. 72
  - 3. 58
  - 4. 61

Question ID : 26433057630

Option 1 ID : 264330225505

Option 2 ID : 264330225507

Option 3 ID : 264330225504

Option 4 ID : 264330225506

Status : Answered

Chosen Option : 4

Q.19 एक निश्चित कूट भाषा में "RING" को 64 के रूप में कूटबद्ध किया जाता है, और "WATCH" को 125 के रूप में कूटबद्ध किया जाता है। उसी कूट भाषा में "BRACELET" को किस प्रकार कूटबद्ध किया जाएगा?

- Ans
- 1. 512
  - 2. 504
  - 3. 478
  - 4. 343

Question ID : 264330132202

Option 1 ID : 264330517906

Option 2 ID : 264330517903

Option 3 ID : 264330517905

Option 4 ID : 264330517904

Status : Answered

Chosen Option : 1

Q.20 एक निश्चित कूट भाषा में "CANADA" को "XZMZWZ" और "AFRICA" को "ZUIRXZ" के रूप में कूटबद्ध किया जाता है। उसी कूट भाषा में "DEPRESSION" को किस प्रकार कूटबद्ध किया जाएगा?

- Ans
- 1. WVKIVGGPLM
  - 2. XVKIVGGRLM
  - 3. XVKIVGGPLM
  - 4. WVKIVHHRLM

Question ID : 26433079051

Option 1 ID : 264330310210

Option 2 ID : 264330310209

Option 3 ID : 264330310211

Option 4 ID : 264330310208

Status : Answered

Chosen Option : 4

Q.21 एक निश्चित कूट भाषा में "CHALK" को 6-16-2-24-22 के रूप में कूटबद्ध किया जाता है, और "BOARD" को 4-30-2-36-8 के रूप में कूटबद्ध किया जाता है। उसी कूट भाषा में "PAPER" को किस प्रकार कूटबद्ध किया जाएगा?

- Ans
- 1. 32-2-32-12-36
  - 2. 36-2-36-10-32
  - 3. 36-2-36-12-32
  - 4. 32-2-32-10-36

Question ID : 264330132203  
Option 1 ID : 264330517910  
Option 2 ID : 264330517908  
Option 3 ID : 264330517909  
Option 4 ID : 264330517907  
Status : Answered  
Chosen Option : 4

Q.22 उस विकल्प का चयन कीजिए, जो दिए गए शब्दों के उस सही क्रम को दर्शाता है, जिस क्रम में वे अंग्रेजी शब्दकोश में मौजूद होते हैं।

1. Sermonize
2. Serious
3. Servant
4. Session
5. Serrated

- Ans
- 1. 3, 2, 5, 1, 4
  - 2. 2, 1, 5, 3, 4
  - 3. 2, 3, 5, 1, 4
  - 4. 3, 1, 5, 2, 4

Question ID : 26433067243  
Option 1 ID : 264330263487  
Option 2 ID : 264330263484  
Option 3 ID : 264330263485  
Option 4 ID : 264330263486  
Status : Answered  
Chosen Option : 2

Q.23 परम, बिंदु A से उत्तर की ओर 8 km ड्राइव करता है। वह दाएं मुड़ता है, और 8 km ड्राइव करता है। वह फिर से दाएं मुड़ता है, और 4 km ड्राइव करता है। अंत में वह दाएं मुड़ता है, और बिंदु B तक पहुँचने के लिए 8 km ड्राइव करता है। फिर से बिंदु A पर पहुँचने के लिए उसे कितनी दूर और किस दिशा में ड्राइव करना चाहिए?

- Ans
- 1. 5 km उत्तर की ओर
  - 2. 4 km दक्षिण की ओर
  - 3. 6 km पूर्व की ओर
  - 4. 3 km पश्चिम की ओर

Question ID : 26433068275  
Option 1 ID : 264330267613  
Option 2 ID : 264330267612  
Option 3 ID : 264330267615  
Option 4 ID : 264330267614  
Status : Answered  
Chosen Option : 2

Q.24 दो कथनों के बाद तीन निष्कर्ष I, II और III दिए गए हैं। कथनों को सत्य मानते हुए, भले ही वे सामान्य रूप से ज्ञात तथ्यों से भिन्न प्रतीत होते हों, यह निर्णय लीजिए कि कौन-से निष्कर्ष कथनों का तार्किक रूप से पालन करते हैं?

कथन:

सभी चाकू बंदूकें हैं।

कुछ बुलेट चाकू हैं।

निष्कर्ष:

I. कुछ बंदूकें बुलेट हैं।

II. कोई भी बुलेट बंदूक नहीं है।

III. कुछ बंदूकें चाकू हैं।

Ans  1. निष्कर्ष II और III दोनों पालन करते हैं।

2. निष्कर्ष I, II और III पालन करते हैं।

3. निष्कर्ष I और III दोनों पालन करते हैं।

4. निष्कर्ष I और II दोनों पालन करते हैं।

Question ID : 26433056066

Option 1 ID : 264330219250

Option 2 ID : 264330219251

Option 3 ID : 264330219249

Option 4 ID : 264330219248

Status : Answered

Chosen Option : 3

Q.25 A @ B का अर्थ है "A, B का पति है"

A & B का अर्थ है "A, B की माता है"

A # B का अर्थ है "A, B की पुत्री है"

यदि J # L @ Y & K @ Z है, तो J का Z से क्या संबंध है?

Ans  1. ननद

2. बहनोई

3. माता

4. भाभी

Question ID : 264330126026

Option 1 ID : 264330493776

Option 2 ID : 264330493778

Option 3 ID : 264330493777

Option 4 ID : 264330493779

Status : Answered

Chosen Option : 1

Q.26 6 मित्र एक वृत्ताकार मेज के परितः बैठे हैं। विनी, ऊर्जा और तन्वी केंद्र की ओर मुख करके बैठी हैं, तथा

अभय, बाला और चान में से दो, केंद्र की ओर मुख करके नहीं बैठे हैं। विनी, चान के बाईं ओर दूसरे

स्थान पर बैठी है। ऊर्जा, अभय के दाईं ओर दूसरे स्थान पर बैठी है। बाला, तन्वी के बाईं ओर तीसरे

स्थान पर बैठी है। चान, तन्वी के दाईं ओर दूसरे स्थान पर बैठा है। अभय, विनी के बगल में बैठा है।

चान के दाईं ओर चौथे स्थान पर कौन बैठा/बैठी है?

Ans  1. विनी

2. बाला

3. तन्वी

4. ऊर्जा

Question ID : 26433085628

Option 1 ID : 264330336216

Option 2 ID : 264330336214

Option 3 ID : 264330336215

Option 4 ID : 264330336213

Status : Not Answered

Chosen Option : --

Q.27 निम्नलिखित में से तीन अक्षर-समूह किसी न किसी तरह से संगत हैं, और एक असंगत है। असंगत अक्षर समूह का चयन करें।

- Ans  1. QSRT  
 2. NPOQ  
 3. XZYA  
 4. PKQJ

Question ID : 264330180758  
Option 1 ID : 264330708999  
Option 2 ID : 264330709002  
Option 3 ID : 264330709000  
Option 4 ID : 264330709001  
Status : Answered  
Chosen Option : 4

Q.28 निम्नलिखित में से कौन सी संख्या दी गई श्रेणी में प्रश्नचिह्न (?) के स्थान पर आएगी?  
28, 30, ?, 188, 754, 3772

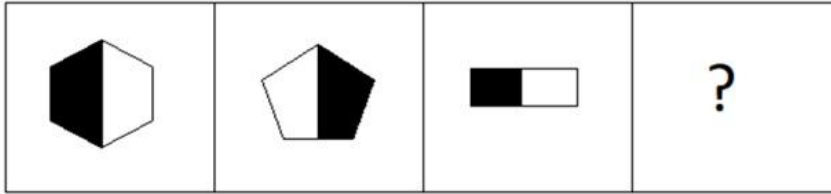
- Ans  1. 120  
 2. 60  
 3. 122  
 4. 62

Question ID : 26433068967  
Option 1 ID : 264330270381  
Option 2 ID : 264330270380  
Option 3 ID : 264330270383  
Option 4 ID : 264330270382  
Status : Answered  
Chosen Option : 4

KD JOB UPDATES




Q.29 निम्नलिखित आकृति श्रृंखला में आगे आने वाली आकृति का चयन करें।




Ans


✗ 1.



✗ 2.



✓ 3.



✗ 4.



KD JOB UPDATES

Question ID : 26433087078

Option 1 ID : 264330341956

Option 2 ID : 264330341955

Option 3 ID : 264330341953

Option 4 ID : 264330341954

Status : Answered

Chosen Option : 3

Q.30 यदि '+' का अर्थ '-', '-' का अर्थ '+', 'x' का अर्थ '-' और '-' का अर्थ 'x' है, तो दिए गए समीकरण में (?) के स्थान पर क्या आएगा?

$$5 \div 2 - 20 + 5 \times 2 = ?$$

Ans  1. 12

2. 15

3. 20

4. 10

Question ID : 264330145292

Option 1 ID : 264330569424

Option 2 ID : 264330569423

Option 3 ID : 264330569426

Option 4 ID : 264330569425

Status : Answered

Chosen Option : 1

Q.31 यदि '+' का अर्थ '-' है, '-' का अर्थ 'x' है, 'x' का अर्थ '-' है और '-' का अर्थ '+' है, तो निम्नलिखित समीकरण में '?' के स्थान पर क्या आएगा?

$$137 \div 80 \times 5 - 4 + 34 = ?$$

Ans  1. 167

2. 184

3. 141

4. 235

Question ID : 264330101149

Option 1 ID : 264330397141

Option 2 ID : 264330397143

Option 3 ID : 264330397144

Option 4 ID : 264330397142

Status : Answered

Chosen Option : 1

Q.32 नीचे तीन कथन और उसके बाद I, II और III क्रमांक वाले तीन निष्कर्ष दिए गए हैं। यह मानते हुए कि कथनों में दी गई जानकारी सत्य है, भले ही ये कथन सामान्य रूप से ज्ञात तथ्यों से भिन्न प्रतीत होते हों, यह निर्णय कीजिए कि कौन से निष्कर्ष इन कथनों का तार्किक रूप से पालन करते हैं?

कथन:

सभी हाथी मछलियां हैं।  
कोई मछली बाघ नहीं है।  
कुछ हिरण हाथी हैं।

निष्कर्ष:

I. कुछ मछलियां हिरण हैं।  
II. कोई हाथी हिरण नहीं है।  
III. कुछ बाघ मछलियां हैं।

Ans  1. निष्कर्ष I और II दोनों पालन करते हैं।

2. निष्कर्ष I और III दोनों पालन करते हैं।

3. केवल निष्कर्ष II पालन करता है।

4. केवल निष्कर्ष I पालन करता है।

Question ID : 264330145342

Option 1 ID : 264330569623

Option 2 ID : 264330569624

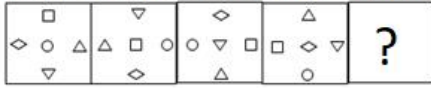
Option 3 ID : 264330569625

Option 4 ID : 264330569626

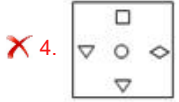
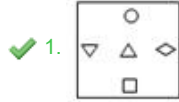
Status : Answered

Chosen Option : 4

Q.33 वह आकृति चुनें, जो नीचे दी गई आकृति श्रृंखला में प्रश्न चिह्न (?) के स्थान पर आएगी।



Ans



Question ID : 264330145489

Option 1 ID : 264330570212

Option 2 ID : 264330570214

Option 3 ID : 264330570211

Option 4 ID : 264330570213

Status : Answered

Chosen Option : 1

Q.34 उस विकल्प का चयन करें जो चौथे पद से उसी प्रकार संबंधित है जिस प्रकार पहला पद, दूसरे पद से संबंधित है और पांचवां पद, छठे पद से संबंधित है।

7 : 40 :: ? : 667 :: 39 : 1512

Ans ✗ 1. 47

✓ 2. 26

✗ 3. 25

✗ 4. 34

Question ID : 26433079357

Option 1 ID : 264330311418

Option 2 ID : 264330311419

Option 3 ID : 264330311416

Option 4 ID : 264330311417

Status : Answered

Chosen Option : 3

Q.35 निम्नलिखित में से कौन-सी संख्या दी गई श्रृंखला में प्रश्न-चिह्न (?) को प्रतिस्थापित करेगी?  
98, 126, 165, 216, 280, ?

Ans ✗ 1. 348

✓ 2. 358

✗ 3. 344

✗ 4. 356

Question ID : 26433069397

Option 1 ID : 264330272100

Option 2 ID : 264330272101

Option 3 ID : 264330272103

Option 4 ID : 264330272102

Status : Answered

Chosen Option : 2

Q.36 उस समुच्चय का चयन कीजिए जिसमें संख्याएँ एक-दूसरे से उसी प्रकार संबंधित हैं जिस प्रकार निम्नलिखित समुच्चय की संख्याएँ आपस में संबंधित हैं।

(नोट: संख्याओं को उसके घटक अंकों में विभाजित किए बिना, पूर्ण संख्याओं पर गणितीय संक्रियाएँ की जानी चाहिए। उदाहरण के लिए 13 - संख्या 13 पर गणितीय संक्रियाएँ जैसे कि जोड़ना / घटाना / गुणा करना आदि को 13 से किया जा सकता है। 13 को 1 और 3 में तोड़ना और फिर 1 और 3 पर गणितीय संक्रियाएँ करने की अनुमति नहीं है)

(6, 15, 1)  
(5, 6, 3)

- Ans  1. (12,46,5)  
 2. (15,21,8)  
 3. (7,42,5)  
 4. (5,32,7)

Question ID : 264330145325

Option 1 ID : 264330569555

Option 2 ID : 264330569558

Option 3 ID : 264330569556

Option 4 ID : 264330569557

Status : Answered

Chosen Option : 2

Q.37 कौन-सा अक्षर-समूह प्रश्नचिह्न (?) के स्थान पर आकर दी गई श्रृंखला को पूर्ण करेगा?  
FMQX, DJSA, ?, ZDWG, XAYJ

- Ans  1. BFUC  
 2. BEDF  
 3. BGDU  
 4. BGUD

Question ID : 26433076665

Option 1 ID : 264330300724

Option 2 ID : 264330300727

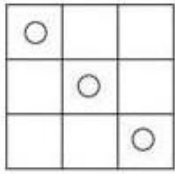
Option 3 ID : 264330300726

Option 4 ID : 264330300725

Status : Answered

Chosen Option : 4

Q.38 जब दर्पण को रेखा MN पर रखा जाता है, तो दी गई आकृति का सही दर्पण प्रतिबिंब ज्ञात कीजिए।




M

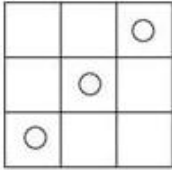
N

Ans

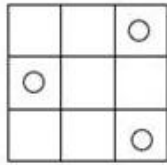
✗ 1.



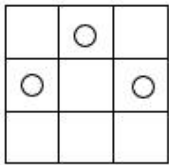
✓ 2.



✗ 3.



✗ 4.



Question ID : 26433056621

Option 1 ID : 264330221470

Option 2 ID : 264330221468

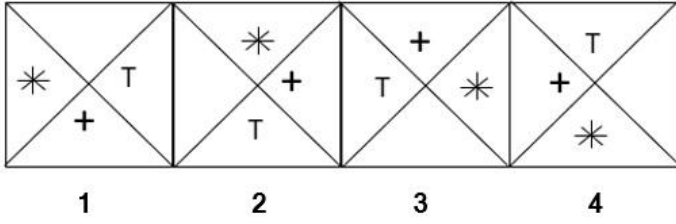
Option 3 ID : 264330221471

Option 4 ID : 264330221469

Status : Answered

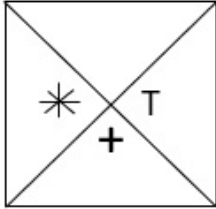
Chosen Option : 2

Q.39 निम्नलिखित में से कौन-सी आकृति दी गई श्रृंखला में 5वें स्थान पर रखे जाने पर पहली चार आकृतियों द्वारा निर्मित श्रृंखला को जारी रखेगी?

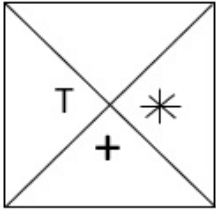


Ans

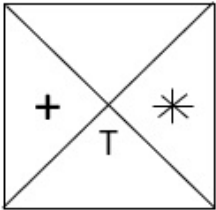
✓ 1.



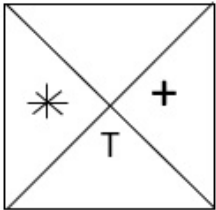
✗ 2.



✗ 3.



✗ 4.



KD JOB UPDATES

Question ID : 26433087306

Option 1 ID : 264330342864

Option 2 ID : 264330342862

Option 3 ID : 264330342863

Option 4 ID : 264330342861

Status : Answered

Chosen Option : 1

Q.40 एक निश्चित कूट भाषा में "BABY" को "29" और "GENDER" को "52" के रूप में कूटबद्ध किया जाता है। उसी कूट भाषा में "CRIPPLE" को किस प्रकार कूटबद्ध किया जाएगा?

- Ans  1. 84  
 2. 88  
 3. 78  
 4. 74

Question ID : 26433079045

Option 1 ID : 264330310185

Option 2 ID : 264330310187

Option 3 ID : 264330310186

Option 4 ID : 264330310184

Status : Marked For Review

Chosen Option : 4

Q.41 यदि '+' का अर्थ '×' है, '×' का अर्थ '-' है, '-' का अर्थ '÷' है और '÷' का अर्थ '+' है, तो दिए गए समीकरण में प्रश्नवाचक चिह्न (?) के स्थान पर क्या आएगा?  
 $150 - 5 + 3 \div 23 \times 3 = ?$

- Ans  1. 155  
 2. 111  
 3. 145  
 4. 110

Question ID : 264330114252

Option 1 ID : 264330449095

Option 2 ID : 264330449096

Option 3 ID : 264330449093

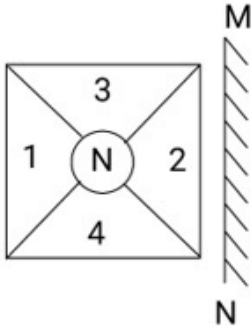
Option 4 ID : 264330449094

Status : Answered

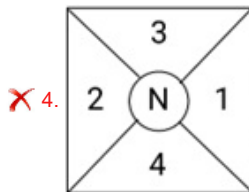
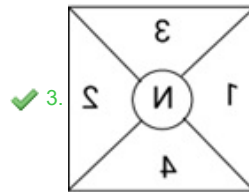
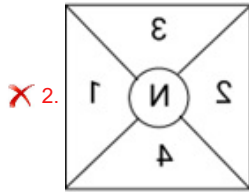
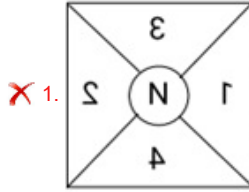
Chosen Option : 4

KD JOB UPDATES

Q.42 दर्पण को नीचे चित्र के अनुसार 'MN' पर रखे जाने पर दिए गए संयोजन के सही दर्पण प्रतिबिंब का चयन करें।



Ans



KD JOB UPDATES

Question ID : 264330130774

Option 1 ID : 264330512208

Option 2 ID : 264330512209

Option 3 ID : 264330512210

Option 4 ID : 264330512207

Status : Answered

Chosen Option : 3

Q.43 निम्नलिखित में से तीन अक्षर-समूह किसी न किसी तरह से संगत हैं, और एक असंगत है। असंगत अक्षर समूह का चयन करें।

Ans ✗ 1. UPTQ

✓ 2. AZBY

✗ 3. ZUYV

✗ 4. FAEB

Question ID : 264330145345

Option 1 ID : 264330569638

Option 2 ID : 264330569636

Option 3 ID : 264330569637

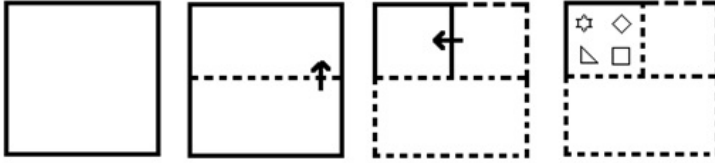
Option 4 ID : 264330569635

Status : Answered

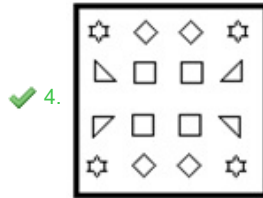
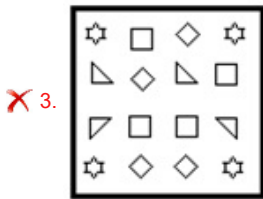
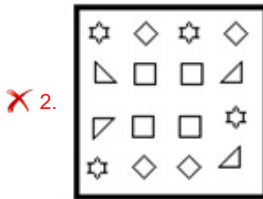

Chosen Option : 2



Q.44 निम्नलिखित आकृतियों में कागज के एक टुकड़े को मोड़ने का क्रम और मुड़े हुए कागज को काटने का तरीका दर्शाया गया है। कागज की तह खुलने पर यह कैसा दिखाई देगा?



Ans



KD JOB UPDATES

Question ID : 26433074793

Option 1 ID : 264330293262

Option 2 ID : 264330293263

Option 3 ID : 264330293260

Option 4 ID : 264330293261

Status : Answered

Chosen Option : 4

Q.45 उस विकल्प का चयन कीजिए, जो तीसरे शब्द से उसी प्रकार संबंधित है, जिस प्रकार दूसरा शब्द पहले शब्द से संबंधित है। (शब्दों को अर्थपूर्ण शब्दों के रूप में माना जाना चाहिए, और वह शब्द में अक्षरों की संख्या/व्यंजनों/स्वरों की संख्या के आधार पर एक-दूसरे से संबंधित नहीं होना चाहिए।)

लाड़-प्यार करना (Pamper): संतुष्ट करना (Gratify) :: नष्ट करना (Devour) : ?

- Ans
- 1. प्राप्त करना (Receive)
  - 2. विध्वंस करना (Ravage)
  - 3. परहेज करना (Abstain)
  - 4. निर्माण करना (Build)

Question ID : 264330145404

Option 1 ID : 264330569872

Option 2 ID : 264330569873

Option 3 ID : 264330569874

Option 4 ID : 264330569871

Status : Answered

Chosen Option : 3

Q.46 निम्नलिखित में से कौन-सी संख्या दी गई श्रृंखला में प्रश्न-चिह्न (?) का स्थान लेगी?

18, 6, 2, ?,  $\frac{2}{9}$

- Ans
- 1.  $\frac{2}{3}$
  - 2.  $\frac{1}{9}$
  - 3. 1
  - 4.  $\frac{1}{3}$

Question ID : 26433092493

Option 1 ID : 264330363262

Option 2 ID : 264330363264

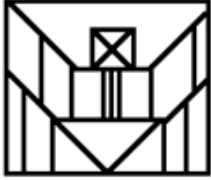
Option 3 ID : 264330363263

Option 4 ID : 264330363261

Status : Answered

Chosen Option : 1

Q.47 उस विकल्प आकृति का चयन करें जो दी गई आकृति में उसके भाग के रूप में सन्निकित है (घुमाने (रोटेशन) की अनुमति नहीं है)।



Ans



Question ID : 264330114742

Option 1 ID : 264330451055

Option 2 ID : 264330451054

Option 3 ID : 264330451056

Option 4 ID : 264330451053

Status : Answered

Chosen Option : 3

Q.48 निम्नलिखित में से कौन सा अक्षर दी गई श्रृंखला में प्रश्नवाचक चिन्ह (?) के स्थान पर आएगा?  
B, D, G, K, P, ?

Ans ✓ 1. V

✗ 2. Q

✗ 3. R

✗ 4. S

Question ID : 264330106618

Option 1 ID : 264330418773

Option 2 ID : 264330418775

Option 3 ID : 264330418774

Option 4 ID : 264330418776

Status : Answered

Chosen Option : 1

Q.49 उस विकल्प का चयन कीजिये जो तीसरे पद से उसी प्रकार संबंधित है जैसे दूसरा पद पहले पद से और छठा पद पांचवें पद से संबंधित है।

98 : 115 :: 74 : ? :: 67 : 84

- Ans
- 1. 80
  - 2. 85
  - 3. 91
  - 4. 95

Question ID : 26433079158  
Option 1 ID : 264330310637  
Option 2 ID : 264330310636  
Option 3 ID : 264330310638  
Option 4 ID : 264330310639  
Status : Answered  
Chosen Option : 3

Q.50 उस सही विकल्प का चयन कीजिए, जो दिए गए शब्दों के उसी क्रम में व्यवस्थापन को दर्शाता है, जिस क्रम में वे अंग्रेजी शब्दकोश में मौजूद होते हैं।

1. Channel
2. Chariot
3. Charcoal
4. Chapel
5. Chamber
6. Chance

- Ans
- 1. 5, 6, 1, 4, 3, 2
  - 2. 5, 1, 6, 4, 3, 2
  - 3. 5, 6, 1, 4, 2, 3
  - 4. 5, 1, 6, 4, 2, 3

Question ID : 264330145374  
Option 1 ID : 264330569754  
Option 2 ID : 264330569751  
Option 3 ID : 264330569752  
Option 4 ID : 264330569753  
Status : Answered  
Chosen Option : 1

Section : General Knowledge and General Awareness

Q.1 एम. बालमुरलीकृष्ण का संबंध संगीत की किस शैली से है?

- Ans
- 1. लोक संगीत
  - 2. हिंदुस्तानी संगीत
  - 3. कर्नाटक संगीत
  - 4. हवेली संगीत

Question ID : 26433074857  
Option 1 ID : 264330293518  
Option 2 ID : 264330293516  
Option 3 ID : 264330293517  
Option 4 ID : 264330293519  
Status : Answered  
Chosen Option : 2

Q.2 सार्वत्रिक गुरुत्वाकर्षण नियम (universal law of gravitation) के संबंध में गलत कथन की पहचान करें।

- Ans
- 1. यह वह बल है, जो सूर्य के चारों ओर ग्रहों की गति को बनाए रखता है
  - 2. यह तारों और पृथ्वी के कारण ज्वार-भाटा उत्पन्न करने वाला बल है
  - 3. यह वह बल है, जो पृथ्वी के चारों ओर चंद्रमा की गति में सहायता करता है
  - 4. यह वह बल है, जो हमें पृथ्वी से बांधकर रखता है

Question ID : 264330103818

Option 1 ID : 264330407575

Option 2 ID : 264330407576

Option 3 ID : 264330407574

Option 4 ID : 264330407573

Status : Answered

Chosen Option : 4

Q.3 निम्नलिखित में से कौन सी घटना 1398 में हुई थी?

- Ans
- 1. बाबर का दिल्ली पर आक्रमण
  - 2. हुमायूँ की पश्चिम के लिए उड़ान
  - 3. तैमूर का भारत पर आक्रमण
  - 4. हल्दीघाटी का युद्ध

Question ID : 26433091457

Option 1 ID : 264330359193

Option 2 ID : 264330359195

Option 3 ID : 264330359194

Option 4 ID : 264330359196

Status : Answered

Chosen Option : 3

Q.4 हेनरिक हर्ट्ज (Heinrich Hertz) ने कब फोटोइलेक्ट्रिक प्रभाव की खोज की, और यह पाया कि इलेक्ट्रोडों पर चमकदार पराबैंगनी प्रकाश, उनके बीच वोल्टेज में परिवर्तन का कारण बनता है?

- Ans
- 1. 1887 में
  - 2. 1916 में
  - 3. 1902 में
  - 4. 1990 में

Question ID : 264330141667

Option 1 ID : 264330554987

Option 2 ID : 264330554990

Option 3 ID : 264330554989

Option 4 ID : 264330554988

Status : Answered

Chosen Option : 3

Q.5 उगादी \_\_\_\_\_ नव वर्ष है, जो मार्च के महीने में मनाया जाता है।

- Ans
- 1. पंजाबी
  - 2. मराठी
  - 3. तेलुगू
  - 4. बंगाली

Question ID : 26433054141

Option 1 ID : 264330211548

Option 2 ID : 264330211549

Option 3 ID : 264330211550

Option 4 ID : 264330211551

Status : Answered

Chosen Option : 3

Q.6 वर्ष \_\_\_\_\_ में इंटरनैशनल क्रिकेट कॉन्फ्रेंस (ICC) के गठन के साथ ही क्रिकेट एक अंतरराष्ट्रीय खेल बन गया।

- Ans
- 1. 1921
  - 2. 1909
  - 3. 1947
  - 4. 1951

Question ID : 26433055190  
Option 1 ID : 264330215746  
Option 2 ID : 264330215744  
Option 3 ID : 264330215747  
Option 4 ID : 264330215745  
Status : Answered  
Chosen Option : 1

Q.7 नौरोज़/नवरोज़ (Nauroz) भारत में निम्नलिखित में से किस समुदाय द्वारा मनाया जाता है?

- Ans
- 1. बौद्ध
  - 2. सिख
  - 3. पारसी
  - 4. जैन

Question ID : 264330164803  
Option 1 ID : 264330646342  
Option 2 ID : 264330646339  
Option 3 ID : 264330646340  
Option 4 ID : 264330646341  
Status : Answered  
Chosen Option : 3

Q.8 कौन-सी रिपोर्ट मौलिक अधिकारों से संबंधित नहीं है?

- Ans
- 1. जे.बी. कृपलानी रिपोर्ट
  - 2. तेज बहादुर सप्रू रिपोर्ट
  - 3. मोतीलाल नेहरू रिपोर्ट
  - 4. सरकारिया आयोग की रिपोर्ट

Question ID : 264330130679  
Option 1 ID : 264330511830  
Option 2 ID : 264330511829  
Option 3 ID : 264330511828  
Option 4 ID : 264330511827  
Status : Answered  
Chosen Option : 2

Q.9 अक्टूबर 2022 में जम्मू और कश्मीर के उपराज्यपाल कौन थे?

- Ans
- 1. मनोज सिन्हा
  - 2. एन.एन. वोहरा
  - 3. सत्य पाल मलिक
  - 4. गिरीश चंद्र मुर्मू

Question ID : 264330113441  
Option 1 ID : 264330445851  
Option 2 ID : 264330445850  
Option 3 ID : 264330445852  
Option 4 ID : 264330445849  
Status : Answered  
Chosen Option : 3

Q.10 \_\_\_\_\_ को प्रचुर मात्रा में घुलित ऑक्सीजन, सूर्य के प्रकाश, पोषक तत्वों, सामान्यतः उच्च तरंग ऊर्जाओं और जल की गति, और अंतराञ्चारीय उपक्षेत्र (intertidal subzone) में, बारी-बारी से जलमग्नता (submergence) और अनावृतता (exposure) के आधार पर वर्णित किया जाता है।

- Ans
- 1. सरोजीवी क्षेत्र (The Lentic Zone)
  - 2. वेलांचल (The Littoral Zone)
  - 3. सरोवरी क्षेत्र (The Limnetic Zone)
  - 4. नितलस्थ क्षेत्र (The Benthic Zone)

Question ID : 26433064210  
Option 1 ID : 264330251433  
Option 2 ID : 264330251432  
Option 3 ID : 264330251434  
Option 4 ID : 264330251435  
Status : Answered  
Chosen Option : 3

Q.11 निम्नलिखित में से किसने 'द डार्क रूम' लिखी थी, जिसमें एक भारतीय महिला को पुरुष वर्चस्व का सख्त विरोध करते हुई दर्शाया गया है?

- Ans
- 1. कुलदीप नैयर
  - 2. आर के नारायण
  - 3. मुल्कराज आनंद
  - 4. काज़ी नज़रुल इस्लाम

Question ID : 264330145181  
Option 1 ID : 264330568980  
Option 2 ID : 264330568982  
Option 3 ID : 264330568981  
Option 4 ID : 264330568979  
Status : Answered  
Chosen Option : 1

Q.12 निम्नलिखित में से किस स्थान पर सर्दियों में अत्यधिक ठंड और गर्मियों में सुहावने मौसम का अनुभव होता है?

- Ans
- 1. अमृतसर
  - 2. लेह
  - 3. चेन्नई
  - 4. नई दिल्ली

Question ID : 264330111910  
Option 1 ID : 264330439725  
Option 2 ID : 264330439726  
Option 3 ID : 264330439727  
Option 4 ID : 264330439728  
Status : Answered  
Chosen Option : 2

Q.13 \_\_\_\_\_ को भू-पृष्ठीय जल (surface water) नहीं माना जाता है।

- Ans
- 1. महासागरों
  - 2. झीलों
  - 3. जलभृतों
  - 4. नदियों

Question ID : 264330163231  
Option 1 ID : 264330640238  
Option 2 ID : 264330640237  
Option 3 ID : 264330640236  
Option 4 ID : 264330640235  
Status : Answered  
Chosen Option : 1

Q.14 निम्नलिखित में से कौन-सा नीतिगत उपाय उदारीकरण की दिशा में एक कदम नहीं है?

- Ans
- 1. कुछ उद्योगों के लिए पंजीकरण की आवश्यकता को हटाना
  - 2. विदेशी निवेश की इक्विटी सीमा में वृद्धि
  - 3. कुछ उद्योगों के लिए औद्योगिक लाइसेंसिंग को हटाना
  - 4. टैरिफ में वृद्धि

Question ID : 26433064578  
Option 1 ID : 264330252905  
Option 2 ID : 264330252907  
Option 3 ID : 264330252904  
Option 4 ID : 264330252906  
Status : Answered  
Chosen Option : 4

Q.15 उस्ताद असद अली खान ध्रुपद के निम्नलिखित में से किस शैली के वादक के रूप में प्रसिद्ध हैं?

- Ans
- 1. गौरी
  - 2. नोहर
  - 3. डागर
  - 4. खण्डार बानी

Question ID : 264330145169  
Option 1 ID : 264330568932  
Option 2 ID : 264330568933  
Option 3 ID : 264330568934  
Option 4 ID : 264330568931  
Status : Answered  
Chosen Option : 3

Q.16 कनक राजू को निम्नलिखित में से किस लोक नृत्य के लिए 2021 में पद्म श्री से सम्मानित किया गया है?

- Ans
- 1. गुसाड़ी (Gussadi)
  - 2. फुगड़ी (Fugdi)
  - 3. गणगौर (Ganagor)
  - 4. भवाई (Bhavai)

Question ID : 264330145156  
Option 1 ID : 264330568880  
Option 2 ID : 264330568881  
Option 3 ID : 264330568882  
Option 4 ID : 264330568879  
Status : Answered  
Chosen Option : 2



Q.17 अलूना काबुइनी (Aluna Kabuini) निम्नलिखित में से किस नृत्य से संबंधित है?

- Ans
- 1. मोहिनीअट्टम
  - 2. सत्रीया
  - 3. मणिपुरी
  - 4. कथक

Question ID : 264330164797

Option 1 ID : 264330646316

Option 2 ID : 264330646318

Option 3 ID : 264330646317

Option 4 ID : 264330646315

Status : Answered

Chosen Option : 3

Q.18 राष्ट्रीय सांख्यिकी कार्यालय (NSO) के आँकड़ों के अनुसार, 2021 में भारत की औसत साक्षरता दर थी।

- Ans
- 1. 70.50%
  - 2. 76.70%
  - 3. 77.70%
  - 4. 78.71%

Question ID : 264330110661

Option 1 ID : 264330434921

Option 2 ID : 264330434923

Option 3 ID : 264330434924

Option 4 ID : 264330434922

Status : Answered

Chosen Option : 3

Q.19 जीवाणु कोशिका की लंबाई कितनी होती है?

- Ans
- 1. 1 से 40  $\mu\text{m}$
  - 2. 0 से 3  $\mu\text{m}$
  - 3. 30 से 50  $\mu\text{m}$
  - 4. 3 से 5  $\mu\text{m}$

Question ID : 264330145216

Option 1 ID : 264330569120

Option 2 ID : 264330569119

Option 3 ID : 264330569122

Option 4 ID : 264330569121

Status : Answered

Chosen Option : 4

Q.20 शर्करा में मौजूद खाद्य घटक क्या होता है?

- Ans
- 1. वसा
  - 2. विटामिन
  - 3. प्रोटीन
  - 4. कार्बोहाइड्रेट

Question ID : 26433086608

Option 1 ID : 264330340076

Option 2 ID : 264330340073

Option 3 ID : 264330340075

Option 4 ID : 264330340074

Status : Answered

Chosen Option : 4

Q.21 गुरुत्वाकर्षण के बारे में सही कथन का चयन कीजिए।

- Ans
- 1. गुरुत्वाकर्षण (g) की इकाई वेग की इकाई के समान है
  - 2. गुरुत्वाकर्षण (g) की इकाई घर्षण की इकाई के समान है
  - 3. गुरुत्वाकर्षण (g) की इकाई त्वरण की इकाई के समान है
  - 4. गुरुत्वाकर्षण (g) की इकाई द्रव्यमान की इकाई के समान है

Question ID : 26433066663  
Option 1 ID : 264330261178  
Option 2 ID : 264330261177  
Option 3 ID : 264330261176  
Option 4 ID : 264330261179  
Status : Answered  
Chosen Option : 3

Q.22 जब नदियाँ किसी झील या गर्त में सभी दिशाओं से अपने जल का निर्वहन करती हैं, जैसा कि मणिपुर में लोकटक झील के मामले में होता है, ऐसी स्थिति में बनने वाले अपवाह तंत्र (drainage system) को \_\_\_\_\_ कहा जाता है।

- Ans
- 1. जालयुक्त (trellis)
  - 2. अभिकेंद्री (centripetal)
  - 3. रेडियल (radial)
  - 4. द्रुमाकृतिक (dendritic)

Question ID : 264330119650  
Option 1 ID : 264330468877  
Option 2 ID : 264330468878  
Option 3 ID : 264330468876  
Option 4 ID : 264330468875  
Status : Answered  
Chosen Option : 2

Q.23 भरतनाट्यम् पारंपरिक रूप से किस प्रकार के संगीत के लिए किया जाता है?

- Ans
- 1. लावणी
  - 2. कर्नाटक
  - 3. बाउल
  - 4. हिंदुस्तानी

Question ID : 26433092387  
Option 1 ID : 264330362840  
Option 2 ID : 264330362838  
Option 3 ID : 264330362839  
Option 4 ID : 264330362837  
Status : Answered  
Chosen Option : 1

Q.24 भारतीय संविधान में मौलिक अधिकार निम्नलिखित में से किस देश के 'अधिकार-पत्र (Bill of Rights)' से प्रेरित हैं?

- Ans
- 1. यूएसएसआर (USSR)
  - 2. जापान
  - 3. ऑस्ट्रेलिया
  - 4. यूएसए (USA)

Question ID : 264330113390  
Option 1 ID : 264330445646  
Option 2 ID : 264330445648  
Option 3 ID : 264330445645  
Option 4 ID : 264330445647  
Status : Answered  
Chosen Option : 4

Q.25 'विंग्स ऑफ फायर' \_\_\_\_\_ की आत्मकथा है।

- Ans
- 1. जाकिर हुसैन
  - 2. ए.पी.जे. अब्दुल कलाम
  - 3. के.आर. नारायणन
  - 4. राजेन्द्र प्रसाद

Question ID : 26433071673  
Option 1 ID : 264330281117  
Option 2 ID : 264330281118  
Option 3 ID : 264330281116  
Option 4 ID : 264330281119  
Status : Answered  
Chosen Option : 2

Q.26 बिना अनुमति के संसद से कितने दिनों की अनुपस्थिति के बाद कोई सांसद अयोग्य हो जाएगा?

- Ans
- 1. 60 दिन
  - 2. 50 दिन
  - 3. 30 दिन
  - 4. 20 दिन

Question ID : 264330133080  
Option 1 ID : 264330521371  
Option 2 ID : 264330521374  
Option 3 ID : 264330521372  
Option 4 ID : 264330521373  
Status : Answered  
Chosen Option : 1

Q.27 बास्केटबॉल खेल में, किसी भी समय एक टीम के कितने खिलाड़ी कोर्ट पर खेलते हैं?

- Ans
- 1. 5
  - 2. 4
  - 3. 7
  - 4. 6

Question ID : 264330109853  
Option 1 ID : 264330431689  
Option 2 ID : 264330431691  
Option 3 ID : 264330431690  
Option 4 ID : 264330431692  
Status : Answered  
Chosen Option : 1

Q.28 भारतीय संविधान के अनुच्छेद 36 से 51 का संबंध निम्नलिखित में से किससे है?

- Ans
- 1. मूल कर्तव्य
  - 2. मूल अधिकार
  - 3. राज्य के नीति निर्देशक तत्व
  - 4. भारतीय संविधान की प्रस्तावना

Question ID : 264330111528  
Option 1 ID : 264330438199  
Option 2 ID : 264330438198  
Option 3 ID : 264330438200  
Option 4 ID : 264330438197  
Status : Answered  
Chosen Option : 3

Q.29 निम्नलिखित में से कौन-सा कर राजस्व का स्रोत है?

- Ans
- 1. दंड (Penalties)
  - 2. सीमा शुल्क (Customs)
  - 3. लाभ (Profits)
  - 4. अनुदान (Grants)

Question ID : 264330145239  
Option 1 ID : 264330569213  
Option 2 ID : 264330569214  
Option 3 ID : 264330569211  
Option 4 ID : 264330569212  
Status : Answered  
Chosen Option : 2

Q.30 2021 में भारत से निर्यात होने वाली प्रमुख वस्तु निम्नलिखित में से कौन सी थी?

- Ans
- 1. आभूषण
  - 2. औषधीय
  - 3. ऑटोमोबाइल
  - 4. पेट्रोलियम उत्पाद

Question ID : 264330112516  
Option 1 ID : 264330442150  
Option 2 ID : 264330442151  
Option 3 ID : 264330442149  
Option 4 ID : 264330442152  
Status : Answered  
Chosen Option : 2

Q.31 निम्नलिखित आंकड़ों में दी गयी उपादान लागत पर जीडीपी (GDP) की गणना करें।  
बाजार मूल्य पर GDP = 600 करोड़  
अचल पूंजी (Fixed Capital) की खपत = 100 करोड़  
अप्रत्यक्ष कर = 200 करोड़  
सब्सिडी = 50 करोड़

- Ans
- 1. 950 करोड़
  - 2. 350 करोड़
  - 3. 850 करोड़
  - 4. 450 करोड़

Question ID : 264330145252

Option 1 ID : 264330569266

Option 2 ID : 264330569263

Option 3 ID : 264330569265

Option 4 ID : 264330569264

Status : Answered

Chosen Option : 3

Q.32 दिल्ली का वह सुल्तान कौन था जिसकी घोड़े से गिरने पर लगी चोटों के कारण मृत्यु हो गई थी?

- Ans
- 1. बलबन
  - 2. बेहराम शाह
  - 3. कुतुबुद्दीन ऐबक
  - 4. इल्तुतमिश

Question ID : 264330109004

Option 1 ID : 264330428295

Option 2 ID : 264330428296

Option 3 ID : 264330428293

Option 4 ID : 264330428294

Status : Answered

Chosen Option : 3

Q.33 निम्नलिखित में से कौन केंद्र में लोक कार्मिकों की भर्ती और सेवा शर्तों से संबंधित विवादों को निपटाने के लिए उत्तरदायी है?

- Ans
- 1. प्रतिस्पर्धा अपीलीय न्यायाधिकरण
  - 2. संयुक्त प्रशासनिक न्यायाधिकरण
  - 3. केंद्रीय प्रशासनिक न्यायाधिकरण
  - 4. निपटान और अपीलीय न्यायाधिकरण

Question ID : 264330145263

Option 1 ID : 264330569307

Option 2 ID : 264330569309

Option 3 ID : 264330569310

Option 4 ID : 264330569308

Status : Answered

Chosen Option : 3

Q.34 2 सितंबर 1946 को बनी अंतरिम सरकार में लियाकत अली खान को किसका प्रभार दिया गया था?

- Ans
- 1. गृह मंत्रालय
  - 2. विदेश मंत्रालय
  - 3. रक्षा मंत्रालय
  - 4. वित्त मंत्रालय

Question ID : 264330106645  
Option 1 ID : 264330418881  
Option 2 ID : 264330418883  
Option 3 ID : 264330418884  
Option 4 ID : 264330418882  
Status : Answered  
Chosen Option : 4

Q.35 अलीवर्दी खान के बाद बंगाल का नवाब कौन बना?

- Ans
- 1. सिराजुद्दौला
  - 2. मीर कासिम
  - 3. मीर जाफ़र
  - 4. शौकत जंग

Question ID : 264330112183  
Option 1 ID : 264330440820  
Option 2 ID : 264330440817  
Option 3 ID : 264330440818  
Option 4 ID : 264330440819  
Status : Answered  
Chosen Option : 1

Q.36 ब्रिटेन और फ़्रांस के बीच वर्ष 1763 में हस्ताक्षरित \_\_\_\_\_ की संधि द्वारा वांडीवाश के युद्ध के बाद भारत में फ़्रांसीसी स्वामित्व को बहाल कर दिया गया था।

- Ans
- 1. तोर्देसिलास
  - 2. पेरिस
  - 3. पुरंदर
  - 4. सूरत

Question ID : 264330165388  
Option 1 ID : 264330648634  
Option 2 ID : 264330648631  
Option 3 ID : 264330648632  
Option 4 ID : 264330648633  
Status : Answered  
Chosen Option : 3

Q.37 निम्नलिखित में से कौन-सा कथन सही है?

- Ans
- 1. जिंक ऑक्साइड, जंग का एक रूप है।
  - 2. रासायनिक रूप से, जंग जलयोजित (hydrated) फेरिक ऑक्साइड होता है।
  - 3. रासायनिक रूप से, जंग गैर-जलयोजित (non-hydrated) फेरिक ऑक्साइड होता है।
  - 4. कॉपर भी जलयोजन (hydration) होने पर जंग में बदल सकता है।

Question ID : 264330111865  
Option 1 ID : 264330439548  
Option 2 ID : 264330439545  
Option 3 ID : 264330439546  
Option 4 ID : 264330439547  
Status : Answered  
Chosen Option : 2

Q.38 पंचवर्षीय योजना लैंगिक मुद्दों, महिला सशक्तिकरण और राज्यों के बीच बढ़ती असमानताओं और अंतर-क्षेत्रीय असमानताओं पर ध्यान केंद्रित करने वाली पहली योजना थी।

- Ans
- 1. चौथी
  - 2. पांचवी
  - 3. छठी
  - 4. तीसरी

Question ID : 264330145249  
Option 1 ID : 264330569253  
Option 2 ID : 264330569252  
Option 3 ID : 264330569251  
Option 4 ID : 264330569254  
Status : Answered  
Chosen Option : 2

Q.39 स्तंभों का मिलान कीजिए।

बंदरगाह	राज्य
1. तूतीकोरिन बंदरगाह	a. पश्चिम बंगाल
2. हल्दिया बंदरगाह	b. तमिलनाडु
3. मंगलौर बंदरगाह	c. कर्नाटक

- Ans
- 1. 1-c, 2-b, 3-a
  - 2. 1-a, 2-b, 3-c
  - 3. 1-c, 2-a, 3-b
  - 4. 1-b, 2-a, 3-c

Question ID : 264330132721  
Option 1 ID : 264330519982  
Option 2 ID : 264330519979  
Option 3 ID : 264330519981  
Option 4 ID : 264330519980  
Status : Answered  
Chosen Option : 3

Q.40 इल्तुतमिश का मकबरा किस वर्ष बनाया गया था?

- Ans
- 1. 1388 ई.
  - 2. 1199 ई.
  - 3. 1235 ई.
  - 4. 1458 ई.

Question ID : 264330164849  
Option 1 ID : 264330646524  
Option 2 ID : 264330646523  
Option 3 ID : 264330646526  
Option 4 ID : 264330646525  
Status : Answered  
Chosen Option : 3

Q.41 हरित क्रांति के संदर्भ में निम्नलिखित में से कौन-सा कथन गलत है?

- Ans
- 1. यह कृषि आधुनिकीकरण का एक सरकारी कार्यक्रम था।
  - 2. इसे वर्षा-पोषित क्षेत्रों में लागू किया गया था।
  - 3. इसका लक्ष्य मुख्यतः गेहूँ और चावल उत्पादक क्षेत्र थे।
  - 4. इसे अंतरराष्ट्रीय एजेंसियों द्वारा वित्त पोषित किया गया था।

Question ID : 264330168859  
Option 1 ID : 264330662247  
Option 2 ID : 264330662249  
Option 3 ID : 264330662250  
Option 4 ID : 264330662248  
Status : Answered  
Chosen Option : 4

Q.42 एलिल ब्रोमाइड (Allyl bromide) का मुख्य IUPAC नाम क्या है?

- Ans
- 1. 1-ब्रोमोपेंटीन
  - 2. 2-ब्रोमोप्रोपीन
  - 3. 3-ब्रोमोब्यूटीन
  - 4. 3-ब्रोमोप्रोपीन

Question ID : 264330111869  
Option 1 ID : 264330439564  
Option 2 ID : 264330439561  
Option 3 ID : 264330439562  
Option 4 ID : 264330439563  
Status : Not Answered  
Chosen Option : --

Q.43 2011 की जनगणना के अनुसार, भारत में निम्नलिखित में से किस राज्य की साक्षरता दर सबसे कम है?

- Ans
- 1. आंध्र प्रदेश
  - 2. ओडिशा
  - 3. हरियाणा
  - 4. बिहार

Question ID : 264330166212  
Option 1 ID : 264330651915  
Option 2 ID : 264330651917  
Option 3 ID : 264330651916  
Option 4 ID : 264330651918  
Status : Answered  
Chosen Option : 4

Q.44 हर्षचरित संस्कृत में \_\_\_\_\_ द्वारा लिखा गया था।

- Ans
- 1. हर्षवर्द्धन
  - 2. नागसेना
  - 3. बाणभट्ट
  - 4. हरिसेना

Question ID : 264330165569  
Option 1 ID : 264330649357  
Option 2 ID : 264330649355  
Option 3 ID : 264330649356  
Option 4 ID : 264330649358  
Status : Answered  
Chosen Option : 3



- Q.45 अंतर-उष्णकटिबंधीय अभिसरण क्षेत्र (ITCZ) के संबंध में निम्नलिखित में से कौन-से कथन सही हैं?
- ITCZ भूमध्यरेखीय अक्षांशों में निम्न दाब वाला एक विस्तृत गर्त है।
  - यह वह स्थान है, जहां उत्तर-पूर्वी और दक्षिण-पूर्वी व्यापारिक पवनें अभिसरित होती हैं।
  - ITCZ एक विषुवतीय गर्त है, जो सामान्यतः भूमध्य रेखा से लगभग 5°N पर स्थित होता है, और पूरे वर्ष यहीं बना रहता है।
  - ITCZ गर्मियों में गंगा के मैदान पर चला जाता है।

- Ans
- 1. a, b और c
  - 2. केवल a और c
  - 3. केवल b और c
  - 4. a, b और d

Question ID : 264330169317  
Option 1 ID : 264330664048  
Option 2 ID : 264330664050  
Option 3 ID : 264330664049  
Option 4 ID : 264330664047  
Status : Not Answered  
Chosen Option : --

- Q.46 वह कौन सा एकमात्र पारिस्थितिकी तंत्र है, जो सौर ऊर्जा पर नहीं पनपता है?

- Ans
- 1. पादप प्लवक (Phytoplanktons)
  - 2. गहरे समुद्र में पाया जाने वाला जल-तापीय पारिस्थितिकी तंत्र (Deep sea hydro-thermal ecosystem)
  - 3. नाइट्रोजन स्थिरीकरण जीवाणु (Nitrogen fixing bacteria)
  - 4. समुद्री जीव (Marine organisms)

Question ID : 26433086751  
Option 1 ID : 264330340646  
Option 2 ID : 264330340648  
Option 3 ID : 264330340645  
Option 4 ID : 264330340647  
Status : Answered  
Chosen Option : 2

- Q.47 टेस्ट मैच क्रिकेट में, एक टीम एक दिन में न्यूनतम कितने ओवर खेल सकती है?

- Ans
- 1. 70
  - 2. 80
  - 3. 90
  - 4. 60

Question ID : 264330118907  
Option 1 ID : 264330466284  
Option 2 ID : 264330466285  
Option 3 ID : 264330466286  
Option 4 ID : 264330466283  
Status : Answered  
Chosen Option : 2

Q.48 निम्नलिखित में से कौन अपरद (detritus) को सरल अकार्बनिक पदार्थों में निम्नीकृत कर सकता है?

- Ans  1. कवकीय एंजाइम  
 2. शैवाल  
 3. पादपप्लवक  
 4. लाइकेन

Question ID : 264330145210  
Option 1 ID : 264330569097  
Option 2 ID : 264330569096  
Option 3 ID : 264330569098  
Option 4 ID : 264330569095  
Status : Answered  
Chosen Option : 3

Q.49 मध्य प्रदेश सरकार ने चेन्नई के एक प्रसिद्ध \_\_\_\_\_ दंपत्ति, धनंजयन दंपत्ति को 2019-2020 के लिए प्रतिष्ठित राष्ट्रीय कालिदास सम्मान से सम्मानित किया।

- Ans  1. सत्रीया  
 2. भरतनाट्यम्  
 3. कथकली  
 4. कुचिपुड़ी

Question ID : 26433054510  
Option 1 ID : 264330213026  
Option 2 ID : 264330213027  
Option 3 ID : 264330213025  
Option 4 ID : 264330213024  
Status : Answered  
Chosen Option : 2

Q.50 विश्व एथलेटिक्स चैंपियनशिप में पदक जीतने वाले पहले भारतीय \_\_\_\_\_ हैं।

- Ans  1. अंजू बॉबी जॉर्ज  
 2. नीरज चोपड़ा  
 3. अन्नू रानी  
 4. मुरली श्रीशंकर

Question ID : 264330109687  
Option 1 ID : 264330431025  
Option 2 ID : 264330431026  
Option 3 ID : 264330431028  
Option 4 ID : 264330431027  
Status : Answered  
Chosen Option : 2

Q.1 दो वृत्त एक-दूसरे को बाह्य रूप से C पर स्पर्श करते हैं। AB दोनों वृत्तों की सीधी उभयनिष्ठ स्पर्शरेखा है, A और B संपर्क-बिंदु हैं, और  $\angle CAB = 55^\circ$  है, तो  $\angle ACB$  का मान ज्ञात कीजिए।

- Ans
- 1.  $45^\circ$
  - 2.  $55^\circ$
  - 3.  $90^\circ$
  - 4.  $35^\circ$

Question ID : 264330165663  
Option 1 ID : 264330649734  
Option 2 ID : 264330649731  
Option 3 ID : 264330649733  
Option 4 ID : 264330649732  
Status : Answered  
Chosen Option : 3

Q.2 15 cm की ऊंचाई वाले एक ठोस बेलन का वक्र पृष्ठीय क्षेत्रफल  $660 \text{ cm}^2$  है। बेलन का आयतन ( $\text{cm}^3$  में) ज्ञात कीजिए। ( $\pi = \frac{22}{7}$  लें)

- Ans
- 1. 2310
  - 2. 2060
  - 3. 2540
  - 4. 3210

Question ID : 264330145115  
Option 1 ID : 264330568716  
Option 2 ID : 264330568717  
Option 3 ID : 264330568715  
Option 4 ID : 264330568718  
Status : Answered  
Chosen Option : 1

Q.3  $\sin(50^\circ + A) - \cos(40^\circ - A)$  का मान क्या होगा?

- Ans
- 1. 1
  - 2. 0
  - 3. -1
  - 4. 2

Question ID : 264330157748  
Option 1 ID : 264330618352  
Option 2 ID : 264330618351  
Option 3 ID : 264330618353  
Option 4 ID : 264330618354  
Status : Answered  
Chosen Option : 2

Q.4 45 संख्याओं का औसत 39 पाया गया। बाद में, यह पता चला कि एक संख्या 65 को गलती से 56 पढ़ लिया गया था। दी गई संख्याओं का सही औसत ज्ञात कीजिए।

Ans  1. 39.2

2. 36.2

3. 38.2

4. 37.2

Question ID : 264330104283

Option 1 ID : 264330409436

Option 2 ID : 264330409433

Option 3 ID : 264330409435

Option 4 ID : 264330409434

Status : Answered

Chosen Option : 1

Q.5 यदि  $\frac{x}{4y} = \frac{3}{4}$  है, तो  $\frac{2x + 3y}{x - 2y}$  का मान क्या होगा?

Ans  1. 7

2. 9

3. 6

4. 8

Question ID : 264330157771

Option 1 ID : 264330618444

Option 2 ID : 264330618446

Option 3 ID : 264330618443

Option 4 ID : 264330618445

Status : Answered

Chosen Option : 2

Q.6 केंद्रों P और Q वाले दो वृत्त, जिनकी त्रिज्याएं क्रमशः 6 cm और 4 cm हैं, एक दूसरे को आंतरिक रूप से स्पर्श करते हैं। यदि PQ का लंब समद्विभाजक, बड़े वृत्त को बिंदुओं A और B पर मिलता है, तो AB का मान ज्ञात करें।

Ans  1.  $2\sqrt{35}$  cm

2.  $\sqrt{5}$  cm

3.  $\sqrt{35}$  cm

4.  $2\sqrt{5}$  cm

Question ID : 264330163483

Option 1 ID : 264330641192

Option 2 ID : 264330641194

Option 3 ID : 264330641191

Option 4 ID : 264330641193

Status : Answered

Chosen Option : 1

Q.7  $x^2 - 8x + 15$  और  $x^2 - 5x + 6$  का लघुत्तम समापवर्त्य (LCM) \_\_\_\_\_ है।

- Ans
- 1.  $(x + 5)(x - 2)(x - 3)$
  - 2.  $(x + 5)(x + 2)(x + 3)$
  - 3.  $(x - 5)(x - 2)(x - 3)$
  - 4.  $(x - 2)(x - 3)^2(x - 5)$

Question ID : 26433063990  
Option 1 ID : 264330250552  
Option 2 ID : 264330250555  
Option 3 ID : 264330250553  
Option 4 ID : 264330250554  
Status : Answered  
Chosen Option : 3

Q.8 एक मेज़ को ₹1,596 में बेचने पर आरव को 24% की हानि होती है। 24% का लाभ प्राप्त करने के लिए उसे इस मेज़ को किस मूल्य पर (₹में) बेचना चाहिए?

- Ans
- 1. 3196
  - 2. 1979
  - 3. 2604
  - 4. 3024

Question ID : 264330102341  
Option 1 ID : 264330401830  
Option 2 ID : 264330401829  
Option 3 ID : 264330401832  
Option 4 ID : 264330401831  
Status : Answered  
Chosen Option : 3

Q.9 तीन उम्मीदवारों ने एक चुनाव लड़ा, और क्रमशः 1136, 7636 और 11628 मत प्राप्त किए। जीतने वाले उम्मीदवार को कुल मतों के कितने प्रतिशत मत प्राप्त हुए?

- Ans
- 1. 33
  - 2. 45
  - 3. 57
  - 4. 49

Question ID : 264330145050  
Option 1 ID : 264330568458  
Option 2 ID : 264330568457  
Option 3 ID : 264330568455  
Option 4 ID : 264330568456  
Status : Answered  
Chosen Option : 3

Q.10 किसी कर्मचारी की मासिक आय ₹26,500 थी, और उसका मासिक व्यय ₹22,000 था। अगले वर्ष उसकी आय में 20% की वृद्धि हुई, और उसके व्यय में 15% की वृद्धि हुई। उसकी बचत में हुई वृद्धि का प्रतिशत ज्ञात कीजिए।

- Ans
- 1.  $44\frac{5}{9}\%$
  - 2.  $44\frac{8}{9}\%$
  - 3.  $44\frac{7}{9}\%$
  - 4.  $44\frac{4}{9}\%$

Question ID : 264330157712

Option 1 ID : 264330618208

Option 2 ID : 264330618210

Option 3 ID : 264330618209

Option 4 ID : 264330618207

Status : Answered

Chosen Option : 4

Q.11 रॉबर्ट एक कार्य को पूरा करने में टॉम से दोगुना और जॉर्ज से तीन गुना समय लेता है। यदि एक साथ कार्य करते हुए, वे इस कार्य को 23 घंटे में पूरा कर सकते हैं, तो टॉम को उस कार्य को पूरा करने में कितना समय लगेगा?

- Ans
- 1. 11 घंटे
  - 2. 39 घंटे
  - 3. 46 घंटे
  - 4. 69 घंटे

Question ID : 26433083054

Option 1 ID : 264330326052

Option 2 ID : 264330326049

Option 3 ID : 264330326051

Option 4 ID : 264330326050

Status : Answered

Chosen Option : 3

Q.12 0.15, 0.18 और 0.45 का लघुत्तम समापवर्त्य (LCM) क्या है?

- Ans
- 1. 0.81
  - 2. 0.9
  - 3. 0.09
  - 4. 0.6

Question ID : 26433063279

Option 1 ID : 264330247771

Option 2 ID : 264330247770

Option 3 ID : 264330247769

Option 4 ID : 264330247768

Status : Answered

Chosen Option : 2

Q.13 धातु की दो गेंदें P और Q इस प्रकार हैं कि P का व्यास, Q के व्यास का चार गुना है। P और Q के आयतनों का अनुपात क्या होगा?

- Ans
- 1. 8:1
  - 2. 64:1
  - 3. 32:1
  - 4. 16:1

Question ID : 264330104212  
Option 1 ID : 264330409149  
Option 2 ID : 264330409152  
Option 3 ID : 264330409151  
Option 4 ID : 264330409150  
Status : Answered  
Chosen Option : 2

Q.14 20, 30, 45 और 65 का लघुत्तम समापवर्त्य (LCM) ज्ञात कीजिए।

- Ans
- 1. 180
  - 2. 2340
  - 3. 2000
  - 4. 2240

Question ID : 26433063435  
Option 1 ID : 264330248395  
Option 2 ID : 264330248394  
Option 3 ID : 264330248393  
Option 4 ID : 264330248392  
Status : Answered  
Chosen Option : 2

Q.15 एक सर्वेक्षण में 200 उत्तरदाताओं से पूछा गया कि क्या उनके पास एक वाहन है या नहीं। उनके उत्तर नीचे सारणीबद्ध हैं। कितने प्रतिशत उत्तरदाताओं के पास कार नहीं है?

		पुरुष	महिला
स्वयं का वाहन	स्कूटर	30	20
	कार	25	10
	दोनों	15	5
स्वयं का वाहन नहीं है		50	45

- Ans
- 1. 65%
  - 2. 75%
  - 3. 68.5%
  - 4. 72.5%

Question ID : 264330167240  
Option 1 ID : 264330655955  
Option 2 ID : 264330655958  
Option 3 ID : 264330655956  
Option 4 ID : 264330655957  
Status : Answered  
Chosen Option : 4

Q.16 A एक निश्चित कार्य को पूरा करने में, B और C द्वारा मिलकर उस कार्य को पूरा करने में लगने वाले समय से 2.4 गुना समय लेता है। यदि A और B मिलकर उक्त कार्य 27 दिन में कर सकते हैं, और C अकेले उसी कार्य को 75 दिन में कर सकता है, तो B अकेले इस कार्य को कितने दिनों में पूरा करेगा?

- Ans  1. 42  
 2. 45  
 3. 54  
 4. 48

Question ID : 264330114535  
Option 1 ID : 264330450227  
Option 2 ID : 264330450225  
Option 3 ID : 264330450228  
Option 4 ID : 264330450226  
Status : Not Answered  
Chosen Option : --

Q.17 विपिन किसी कार्य को 2 दिनों में कर सकता है; वैभव उसी कार्य को 3 दिनों में कर सकता है, और चिराग उसी कार्य को 6 दिनों में कर सकता है. यदि वे एक साथ कार्य करना आरंभ करते हैं, तो उन्हें कार्य को पूरा करने में कितने दिन लगेंगे?

- Ans  1. 5  
 2. 3  
 3. 1  
 4. 4

Question ID : 264330102374  
Option 1 ID : 264330401961  
Option 2 ID : 264330401963  
Option 3 ID : 264330401964  
Option 4 ID : 264330401962  
Status : Answered  
Chosen Option : 3

Q.18 यदि ₹6,500 की राशि, अर्धवार्षिक चक्रवृद्धि आधार पर गणनीय, 10% वार्षिक चक्रवृद्धि ब्याज की दर पर 2 वर्षों के लिए उधार ली जा रही है, तो अवधि की समाप्ति पर मिश्रधन (केवल पूर्णांक मान) ज्ञात कीजिए।

- Ans  1. ₹7,650  
 2. ₹8,250  
 3. ₹7,900  
 4. ₹8,150

Question ID : 264330145056  
Option 1 ID : 264330568480  
Option 2 ID : 264330568481  
Option 3 ID : 264330568479  
Option 4 ID : 264330568482  
Status : Answered  
Chosen Option : 4



Q.19 ₹5,000 पर 30% की छूट, और इसी राशि पर 15% और 25% की दो क्रमिक छूटों के बीच का अंतर ज्ञात करें।

- Ans
- 1. ₹315.50
  - 2. ₹350.50
  - 3. ₹312.50
  - 4. ₹412.50

Question ID : 264330104509  
Option 1 ID : 264330410337  
Option 2 ID : 264330410340  
Option 3 ID : 264330410338  
Option 4 ID : 264330410339  
Status : Answered  
Chosen Option : 3

Q.20 यदि  $\sin \theta + \cos \theta = \frac{\sqrt{11}}{3}$  है, तो  $\sin \theta - \cos \theta$  का मान क्या होगा?

- Ans
- 1.  $\frac{\sqrt{7}}{4}$
  - 2.  $\frac{\sqrt{5}}{2}$
  - 3.  $\frac{\sqrt{7}}{3}$
  - 4.  $\frac{\sqrt{5}}{3}$

Question ID : 264330130415  
Option 1 ID : 264330510772  
Option 2 ID : 264330510773  
Option 3 ID : 264330510774  
Option 4 ID : 264330510771  
Status : Answered  
Chosen Option : 3

Q.21 राम के पास 12 मुर्गियाँ और 5 गाय हैं, श्याम के पास 18 मुर्गियाँ और 9 गाय हैं, प्रीतम के पास 4 मुर्गियाँ और 8 गाय हैं, और विनय के पास 10 मुर्गियाँ और 7 गाय हैं। मुर्गियों और गायों का सबसे बड़ा अनुपात किसके पास है?

- Ans
- 1. विनय
  - 2. श्याम
  - 3. प्रीतम
  - 4. राम

Question ID : 264330104253  
Option 1 ID : 264330409315  
Option 2 ID : 264330409313  
Option 3 ID : 264330409316  
Option 4 ID : 264330409314  
Status : Answered  
Chosen Option : 4

Q.22 दी गई तालिका का अध्ययन करें, और नीचे दिए गए प्रश्न का उत्तर दें।  
निम्न तालिका पाँच अलग-अलग संस्थाओं A, B, C, D और E में विभिन्न विभागों में कर्मचारियों की संख्या को दर्शाती है।

विभाग ↓ संस्था →	A	B	C	D	E
एचआर	1050	1015	976	888	1004
वित्त	1017	960	786	1025	963
विपणन	1382	1384	1275	1300	1290
उत्पादन	1542	1545	4550	1570	1580
लेखा	786	745	801	800	735
विधि	48	54	36	30	53
कुल	5825	5703	5424	5613	5625

किस संस्था में कर्मचारियों की संख्या सर्वाधिक है?

- Ans  1. A  
 2. B  
 3. E  
 4. D

Question ID : 264330157715  
Option 1 ID : 264330618219  
Option 2 ID : 264330618220  
Option 3 ID : 264330618222  
Option 4 ID : 264330618221  
Status : Answered  
Chosen Option : 1

Q.23 यदि  $\tan\theta + \cot\theta = 2$  है,  $\theta$  एक न्यून कोण है, तो  $2 \tan^{25}\theta + 3 \cot^{20}\theta + 5 \tan^{30}\theta \cot^{15}\theta$  का मान ज्ञात कीजिए।

- Ans  1. 12  
 2. 10  
 3. 8  
 4. 6

Question ID : 264330145126  
Option 1 ID : 264330568762  
Option 2 ID : 264330568761  
Option 3 ID : 264330568760  
Option 4 ID : 264330568759  
Status : Answered  
Chosen Option : 2

Q.24 एक गोले और एक अन्य ठोस अर्धगोले के पृष्ठीय क्षेत्रफल बराबर हैं। उनके आयतनों का अनुपात ज्ञात कीजिए।

- Ans
- 1.  $3\sqrt{3} : 8$
  - 2.  $\sqrt{3} : 4$
  - 3.  $2\sqrt{3} : 8$
  - 4.  $3\sqrt{3} : 4$

Question ID : 264330123007

Option 1 ID : 264330482094

Option 2 ID : 264330482091

Option 3 ID : 264330482093

Option 4 ID : 264330482092

Status : Answered

Chosen Option : 1

Q.25 30% और 20% की दो क्रमिक छूटें किस एकल छूट के समतुल्य हैं?

- Ans
- 1. 45%
  - 2. 50%
  - 3. 52%
  - 4. 44%

Question ID : 264330129421

Option 1 ID : 264330507052

Option 2 ID : 264330507051

Option 3 ID : 264330507053

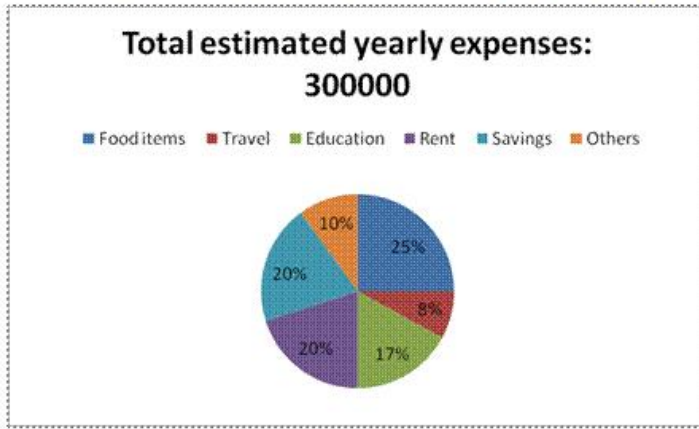
Option 4 ID : 264330507050

Status : Answered

Chosen Option : 4

KD JOB UPDATES

Q.26 Study the following pie chart and answer the below question:



How much per cent is more expense on rent than the expense on others?

- Ans
- 1. 50%
  - 2. 100%
  - 3. 10%
  - 4. 150%

Question ID : 264330158397  
Option 1 ID : 264330620948  
Option 2 ID : 264330620949  
Option 3 ID : 264330620947  
Option 4 ID : 264330620950  
Status : Answered  
Chosen Option : 2

Q.27 निम्नलिखित का मान ज्ञात कीजिए।  
 $9 \times 2 \div 3$  of  $24 - 3 \div 2 \times (6 - 7) \times 2 + 3 \div 3$  of 5

- Ans
- 1.  $\frac{69}{20}$
  - 2.  $\frac{9}{20}$
  - 3. 3
  - 4. 4

Question ID : 26433073054  
Option 1 ID : 264330286408  
Option 2 ID : 264330286409  
Option 3 ID : 264330286410  
Option 4 ID : 264330286411  
Status : Answered  
Chosen Option : 1

Q.28 निम्न तालिका 5 विद्यार्थियों द्वारा 5 विभिन्न विषयों में 100 में से प्राप्त अंकों को दर्शाती है।

विद्यार्थी	हिन्दी	अंग्रेजी	गणित	विज्ञान	समाज-शास्त्र
रवि	78	84	88	75	79
अभिषेक	84	86	78	89	80
आयुष	88	80	90	82	85
रोहित	72	85	88	89	78
आर्यन	86	88	77	79	89

आयुष ने सभी विषयों में कुल कितने अंक प्राप्त किए?

- Ans
- ✓ 1. 425
  - ✗ 2. 445
  - ✗ 3. 435
  - ✗ 4. 465

Question ID : 264330158617

Option 1 ID : 264330621827

Option 2 ID : 264330621829

Option 3 ID : 264330621828

Option 4 ID : 264330621830

Status : Answered

Chosen Option : 1

Q.29 दिए गए तालिका चार्ट का ध्यानपूर्वक अध्ययन कीजिए और निम्नलिखित प्रश्न का उत्तर दीजिए।

दी गई तालिका 2019, 2020, 2021 और 2022 में पांच अलग-अलग संगठनों, यानी A, B, C, D और E में कर्मचारियों की संख्या दर्शाती है।

संगठन	वर्ष			
	2019	2020	2021	2022
A	4000	7800	2600	5200
B	3800	9200	9100	7300
C	4500	5500	7800	3250
D	7000	3800	8000	4650
E	6600	6200	7600	2880

2019 में संगठन D और E में कर्मचारियों की संख्या और 2021 में समान संगठनों में कर्मचारियों की संख्या का अनुपात क्या है?

- Ans
- ✗ 1. 39 : 34
  - ✗ 2. 9 : 14
  - ✗ 3. 14 : 9
  - ✓ 4. 34 : 39

Question ID : 264330165171

Option 1 ID : 264330647784

Option 2 ID : 264330647785

Option 3 ID : 264330647786

Option 4 ID : 264330647783

Status : Answered

Chosen Option : 4

Q.30 180 m लंबी एक ट्रेन 500 m लंबी सुरंग को पार करने में 40 सेकंड का समय लेती है। ट्रेन की चाल km/h में कितनी है?

- Ans  1. 52.5  
 2. 61.2  
 3. 71.2  
 4. 80.5

Question ID : 264330145033  
Option 1 ID : 264330568387  
Option 2 ID : 264330568388  
Option 3 ID : 264330568389  
Option 4 ID : 264330568390  
Status : Answered  
Chosen Option : 2

Q.31 96, 132 और 438 का लघुत्तम समापवर्त्य (LCM) क्या है?

- Ans  1. 77088  
 2. 67055  
 3. 85046  
 4. 86084

Question ID : 26433064884  
Option 1 ID : 264330254130  
Option 2 ID : 264330254131  
Option 3 ID : 264330254128  
Option 4 ID : 264330254129  
Status : Answered  
Chosen Option : 1

Q.32  $\frac{\sin^2 39^\circ + \sin^2(90^\circ - 39^\circ)}{\cos^2 35^\circ + \cos^2(90^\circ - 35^\circ)} + 3\tan 25^\circ \tan 75^\circ$  का मान ज्ञात कीजिए।

- Ans  1. 4  
 2. 2  
 3. 3  
 4. 1

Question ID : 264330158422  
Option 1 ID : 264330621047  
Option 2 ID : 264330621049  
Option 3 ID : 264330621048  
Option 4 ID : 264330621050  
Status : Answered  
Chosen Option : 1

Q.33 एक धावक 750 मीटर की दौड़ 54 सेकंड में पूरी करता है। धावक की चाल (km/h में) ज्ञात कीजिए।

Ans  1. 40

2. 50

3. 30

4. 14

Question ID : 264330145069

Option 1 ID : 264330568533

Option 2 ID : 264330568534

Option 3 ID : 264330568532

Option 4 ID : 264330568531

Status : Answered

Chosen Option : 2

Q.34 ऐसे चतुर्भुजाकार भूखंड का क्षेत्रफल क्या होगा, जिसका एक विकर्ण 20 m है, और इसके सम्मुख शीर्षों से उस पर खींचे गए लंबों की लंबाइयां क्रमशः 12 m और 18 m है?

Ans  1. 300 m<sup>2</sup>

2. 400 m<sup>2</sup>

3. 200 m<sup>2</sup>

4. 250 m<sup>2</sup>

Question ID : 264330145136

Option 1 ID : 264330568801

Option 2 ID : 264330568802

Option 3 ID : 264330568799

Option 4 ID : 264330568800

Status : Answered

Chosen Option : 1

Q.35 निम्नांकित तालिका का ध्यानपूर्वक अध्ययन कीजिए और उसके आधार पर पूछे गए प्रश्नों के उत्तर दीजिए। तालिका 2010 से 2015 के बीच चार विनिर्माताओं द्वारा निर्मित वाहनों की घरेलू बिक्री को दर्शाती है।

विनिर्माता	2010	2011	2012	2013	2014	2015
A	560000	580000	600000	620000	650000	680000
B	540000	590000	570000	630000	710000	550000
C	610000	580000	620000	680000	690000	630000
D	630000	570000	700000	690000	700000	640000

निम्नलिखित में से किस संयोजन के संदर्भ में, दी गई अवधि में वाहनों की बिक्री न्यूनतम है?

Ans  1. A, 2011

2. A, 2010

3. B, 2010

4. B, 2015

Question ID : 26433074318

Option 1 ID : 264330291394

Option 2 ID : 264330291393

Option 3 ID : 264330291392

Option 4 ID : 264330291395

Status : Answered

Chosen Option : 3

Q.36

दी गई तालिका का अध्ययन कीजिए और उसके बाद दिए गए प्रश्न का उत्तर दीजिए।

तालिका छह अलग-अलग स्कूलों की छह अलग-अलग कक्षाओं में पढ़ने वाले विद्यार्थियों की संख्या को दर्शाती है।

स्कूल	कक्षा V	कक्षा VI	कक्षा VII	कक्षा VIII	कक्षा IX	कक्षा X
P	152	160	145	156	147	144
Q	148	166	150	155	157	143
R	161	152	140	145	143	165
S	159	142	149	140	142	168
T	147	144	158	163	154	150
U	150	160	162	160	161	140
योग	917	924	904	919	904	910

स्कूल U से कक्षा VII में पढ़ने वाले विद्यार्थियों की संख्या, उस स्कूल की सभी कक्षाओं के विद्यार्थियों की कुल संख्या का कितना प्रतिशत है (दशमलव के 2 स्थानों तक पूर्णांकित)?

Ans  1. 17.36%

2. 18.25%

3. 15.63%

4. 16.48%

Question ID : 264330145101

Option 1 ID : 264330568661

Option 2 ID : 264330568662

Option 3 ID : 264330568659

Option 4 ID : 264330568660

Status : Answered

Chosen Option : 1



Q.37 निम्न तालिका पोर्टलैंड हाई स्कूल के 10वीं कक्षा के छात्रों का डेटा दर्शाती है।

	लड़के	लड़कियां
विज्ञान में नामांकित	25	20
विज्ञान में नामांकित नहीं	20	30

पोर्टलैंड हाई स्कूल के 10वीं कक्षा के उन लड़कों का अनुमानित प्रतिशत क्या है, जो विज्ञान में नामांकित नहीं हैं?

- Ans
- 1. 55.55%
  - 2. 33.33%
  - 3. 44.44%
  - 4. 22.22%

Question ID : 264330167243  
Option 1 ID : 264330655968  
Option 2 ID : 264330655967  
Option 3 ID : 264330655969  
Option 4 ID : 264330655970  
Status : Answered  
Chosen Option : 3

Q.38 एक समबाहु  $\triangle PQR$  में, S भुजा QR पर इस प्रकार स्थित एक बिंदु है कि  $QR = 3QS$  है। यदि  $PQ = 9$  cm है, तो PS की लंबाई (cm में) कितनी होगी?

- Ans
- 1.  $\sqrt{61}$
  - 2.  $\sqrt{60}$
  - 3.  $\sqrt{62}$
  - 4.  $\sqrt{63}$

Question ID : 264330165691  
Option 1 ID : 264330649844  
Option 2 ID : 264330649843  
Option 3 ID : 264330649845  
Option 4 ID : 264330649846  
Status : Marked For Review  
Chosen Option : 3

Q.39 3 m 15 cm, 5 m और 6 m 85 cm की लंबाइयों को पूर्णतः मापने के लिए उपयोग की जा सकने वाली बड़ी से बड़ी संभव लंबाई ज्ञात कीजिए।

- Ans
- 1. 11 cm
  - 2. 9 cm
  - 3. 5 cm
  - 4. 7 cm

Question ID : 26433091512  
Option 1 ID : 264330359416  
Option 2 ID : 264330359415  
Option 3 ID : 264330359413  
Option 4 ID : 264330359414  
Status : Answered  
Chosen Option : 4

Q.40 साधारण ब्याज की एक निश्चित वार्षिक दर पर एक राशि 4 वर्षों में ₹7,656, और 5 वर्षों में ₹8,120 हो जाती है। ब्याज दर कितनी है?

- Ans  1. 3%  
 2. 7%  
 3. 8%  
 4. 4%

Question ID : 264330165156  
Option 1 ID : 264330647725  
Option 2 ID : 264330647724  
Option 3 ID : 264330647726  
Option 4 ID : 264330647723  
Status : Answered  
Chosen Option : 3

Q.41 निम्नलिखित में से कौन सा अनुपात सबसे बड़ा है?

- Ans  1. 7 : 10  
 2. 1 : 3  
 3. 2 : 5  
 4. 5 : 6

Question ID : 264330145075  
Option 1 ID : 264330568558  
Option 2 ID : 264330568555  
Option 3 ID : 264330568556  
Option 4 ID : 264330568557  
Status : Answered  
Chosen Option : 4

Q.42 यदि  $a - \frac{1}{a} = 4$  है, तो  $a + \frac{1}{a}$  का मान क्या होगा?

- Ans  1.  $4\sqrt{5}$   
 2.  $2\sqrt{5}$   
 3.  $3\sqrt{5}$   
 4.  $5\sqrt{5}$

Question ID : 264330157764  
Option 1 ID : 264330618417  
Option 2 ID : 264330618415  
Option 3 ID : 264330618416  
Option 4 ID : 264330618418  
Status : Answered  
Chosen Option : 2

Q.43 एक व्यक्ति ने ₹60,000 प्रत्येक में दो कारें बेचीं। एक पर उसे 20% का लाभ हुआ, जबकि दूसरे पर उसे 20% की हानि हुई। उसके लाभ या हानि का प्रतिशत ज्ञात कीजिए।

- Ans
- 1. न लाभ और न हानि
  - 2. 2% हानि
  - 3. 4% हानि
  - 4. 4% लाभ

Question ID : 264330130383  
Option 1 ID : 264330510643  
Option 2 ID : 264330510646  
Option 3 ID : 264330510644  
Option 4 ID : 264330510645  
Status : Answered  
Chosen Option : 3

Q.44 जूली और सोमा एक ही स्थान से आरंभ करते हैं, और विपरीत दिशाओं में चलते हैं। जूली, सोमा से 4 km/h तेज चलती है। 4 घंटे बाद, वे एक-दूसरे से 40 km दूर हैं। प्रत्येक की चाल कितनी थी?

- Ans
- 1. जूली – 9 km/h; सोमा – 5 km/h
  - 2. जूली – 8 km/h; सोमा – 4 km/h
  - 3. जूली – 7 km/h; सोमा – 3 km/h
  - 4. जूली – 10 km/h; सोमा – 6 km/h

Question ID : 264330103741  
Option 1 ID : 264330407271  
Option 2 ID : 264330407270  
Option 3 ID : 264330407269  
Option 4 ID : 264330407272  
Status : Answered  
Chosen Option : 3

Q.45 एक परिवार ₹75,000 कमाता है, जिसमें से 10% की बचत होती है। खर्च का 30% शिक्षा पर खर्च होता है, जबकि ₹30,375 स्वास्थ्य पर खर्च होता है, और शेष राशि भोजन पर खर्च की जाती है। कुल आय में, भोजन पर होने वाले खर्च का प्रतिशत कितना है?

- Ans
- 1. 22.5%
  - 2. 20%
  - 3. 21.5%
  - 4. 32.5%

Question ID : 264330103314  
Option 1 ID : 264330405564  
Option 2 ID : 264330405563  
Option 3 ID : 264330405561  
Option 4 ID : 264330405562  
Status : Marked For Review  
Chosen Option : 1

Q.46 वह छोटी से छोटी संख्या क्या होगी, जिसे दोगुना करने पर वह 12, 14, 16 और 18 से पूर्णतः विभाजित हो जाएगी?

- Ans  1. 636  
 2. 428  
 3. 504  
 4. 226

Question ID : 26433075091  
Option 1 ID : 264330294455  
Option 2 ID : 264330294453  
Option 3 ID : 264330294454  
Option 4 ID : 264330294452  
Status : Answered  
Chosen Option : 3

Q.47 अरबिंद के पास 650 kg गेहूँ है। जिसमें से एक भाग को वह 9% के लाभ पर बेचता है, और शेष को 19% के लाभ पर बेचता है, ताकि उसे पूरे गेहूँ पर 15% का लाभ प्राप्त हो सके। अरबिंद द्वारा 9% लाभ पर बेचे गए गेहूँ की मात्रा (kg में) कितनी है?

- Ans  1. 260  
 2. 390  
 3. 195  
 4. 455

Question ID : 264330108980  
Option 1 ID : 264330428197  
Option 2 ID : 264330428198  
Option 3 ID : 264330428199  
Option 4 ID : 264330428200  
Status : Answered  
Chosen Option : 1

Q.48 3 cm त्रिज्या और 4 cm ऊंचाई वाले शंकु का संपूर्ण पृष्ठीय क्षेत्रफल ज्ञात कीजिए।

- Ans  1.  $\frac{528}{7} \text{ cm}^2$   
 2.  $\frac{475}{8} \text{ cm}^2$   
 3.  $\frac{501}{9} \text{ cm}^2$   
 4.  $\frac{425}{7} \text{ cm}^2$

Question ID : 264330103752  
Option 1 ID : 264330407316  
Option 2 ID : 264330407314  
Option 3 ID : 264330407315  
Option 4 ID : 264330407313  
Status : Answered  
Chosen Option : 1

Q.49 दो सकेन्द्रित वृत्तों में से, बाह्य वृत्त की त्रिज्या 6 cm है, और इसकी 10 cm लंबाई वाली जीवा PQ, आंतरिक वृत्त की स्पर्श रेखा है। आंतरिक वृत्त की त्रिज्या (cm में) ज्ञात कीजिए।

- Ans
- ✗ 1.  $\sqrt{13}$
  - ✗ 2.  $\sqrt{7}$
  - ✗ 3. 4
  - ✓ 4.  $\sqrt{11}$

Question ID : 264330163484

Option 1 ID : 264330641197

Option 2 ID : 264330641195

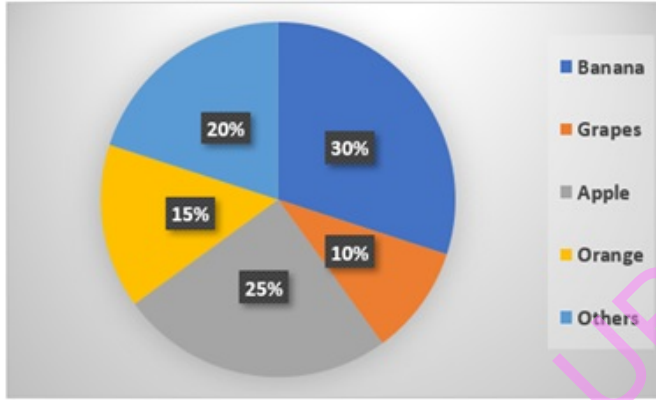
Option 3 ID : 264330641198

Option 4 ID : 264330641196

Status : Answered

Chosen Option : 4

Q.50 दिए गए पाई-चार्ट का अध्ययन करें, और निम्नलिखित प्रश्न का उत्तर दें।  
निम्न पाई-चार्ट एक दुकान में एक दिन में विभिन्न फलों की बिक्री को दर्शाता है।



Banana = केला, Grapes = अंगूर, Apple = सेब, Orange = संतरा, Others = अन्य  
यदि एक दिन में कुल 1200 kg फल बेचे गए, तो अंगूर और संतरे की बिक्री (kg में) के बीच का अंतर ज्ञात कीजिए।

- Ans
- ✓ 1. 60
  - ✗ 2. 45
  - ✗ 3. 65
  - ✗ 4. 55

Question ID : 264330157736

Option 1 ID : 264330618305

Option 2 ID : 264330618303

Option 3 ID : 264330618306

Option 4 ID : 264330618304

Status : Answered

Chosen Option : 1

**Q.1** Select the **INCORRECTLY** spelt word from the underlined words in the following sentence.

But he waited with the inconceivable patience and persistancy of the race; besides, he was certain, the cat was a creature of absolute convictions and his faith in his deductions never wavered.

- Ans**
- 1. inconceivable
  - 2. convictions
  - 3. deductions
  - 4. persistancy

Question ID : 264330141160

Option 1 ID : 264330552983

Option 2 ID : 264330552985

Option 3 ID : 264330552986

Option 4 ID : 264330552984

Status : **Marked For Review**

Chosen Option : 3

**Q.2** Select the most appropriate **ANTONYM** of the given word.  
Calm

- Ans**
- 1. Turbulent
  - 2. Variable
  - 3. Shocked
  - 4. Confused

Question ID : 26433099659

Option 1 ID : 264330391242

Option 2 ID : 264330391241

Option 3 ID : 264330391243

Option 4 ID : 264330391244

Status : **Answered**

Chosen Option : 1

**Q.3** Select the most appropriate meaning of the given idiom.  
Hear someone out

- Ans**
- 1. Keep someone out
  - 2. Let someone complete what they are saying
  - 3. Hear from far away
  - 4. Dismiss someone from listening to you

Question ID : 264330137448

Option 1 ID : 264330538418

Option 2 ID : 264330538417

Option 3 ID : 264330538416

Option 4 ID : 264330538415

Status : **Answered**

Chosen Option : 4

**Q.4** Select the most appropriate ANTONYM of the given word.

**Sluggish**

- Ans**  1. Abnormal  
 2. Utterly  
 3. Swift  
 4. Slow

Question ID : 264330163378

Option 1 ID : 264330640800

Option 2 ID : 264330640801

Option 3 ID : 264330640802

Option 4 ID : 264330640799

Status : Answered

Chosen Option : 3

**Q.5** Select the most appropriate meaning of the given idiom.  
**Build castles in the air**

- Ans**  1. To make imaginary schemes  
 2. To build a palatial house  
 3. To talk pointlessly  
 4. To make useless efforts

Question ID : 264330117183

Option 1 ID : 264330460794

Option 2 ID : 264330460796

Option 3 ID : 264330460795

Option 4 ID : 264330460793

Status : Answered

Chosen Option : 1

**Q.6** Select the most appropriate ANTONYM of the given word.  
**Profane**

- Ans**  1. Immaterial  
 2. Divine  
 3. Barnyard  
 4. Perverse

Question ID : 264330165263

Option 1 ID : 264330648144

Option 2 ID : 264330648143

Option 3 ID : 264330648146

Option 4 ID : 264330648145

Status : Marked For Review

Chosen Option : 2

**Q.7 Select the correctly spelt sentence.**

- Ans** ✓ 1. The country's GDP bloomed despite the ongoing war situation.  
✗ 2. The country's GDP bloomed dispete the ongoing war situation.  
✗ 3. The country's GDP bloomed dispite the ongoing war situation.  
✗ 4. The country's GDP bloomed despete the ongoing war situation

Question ID : 26433088907  
Option 1 ID : 264330349175  
Option 2 ID : 264330349174  
Option 3 ID : 264330349176  
Option 4 ID : 264330349173  
Status : Answered  
Chosen Option : 1

**Q.8 Select the option that can be used as a one-word substitute for the given group of words.**

**Study of coins**

- Ans** ✗ 1. Philately  
✗ 2. Apothecary  
✓ 3. Numismatics  
✗ 4. Antiquary

Question ID : 26433088808  
Option 1 ID : 264330348787  
Option 2 ID : 264330348785  
Option 3 ID : 264330348788  
Option 4 ID : 264330348786  
Status : Answered  
Chosen Option : 3

**Q.9 Select the most appropriate ANTONYM for the highlighted word.**  
**They drank some spurious drink and fainted.**

- Ans** ✓ 1. genuine  
✗ 2. artificial  
✗ 3. curious  
✗ 4. nefarious

Question ID : 264330120740  
Option 1 ID : 264330473178  
Option 2 ID : 264330473175  
Option 3 ID : 264330473176  
Option 4 ID : 264330473177  
Status : Answered  
Chosen Option : 1



**Q.10** Select the most appropriate meaning of the underlined idiom.  
I did not even listen to him; he was only talking through his hat.

- Ans
- 1. Talking ignorantly
  - 2. Talking garrulously
  - 3. Talking non-stop
  - 4. Talking nonsense

Question ID : 26433099632  
Option 1 ID : 264330391141  
Option 2 ID : 264330391143  
Option 3 ID : 264330391142  
Option 4 ID : 264330391144  
Status : Answered  
Chosen Option : 4

**Q.11** Select the most appropriate option that can substitute the underlined segment in the given sentence. If there is no need to substitute it, select 'No substitution required'.  
Despite of an injury, he won the match.

- Ans
- 1. In despite of
  - 2. No substitution required
  - 3. Despite
  - 4. In spite off

Question ID : 26433070776  
Option 1 ID : 264330277562  
Option 2 ID : 264330277563  
Option 3 ID : 264330277560  
Option 4 ID : 264330277561  
Status : Answered  
Chosen Option : 4

**Q.12** Select the most appropriate ANTONYM of the underlined word in the given sentence.

The court absolved the defendant of all charges due to lack of evidence.

- Ans
- 1. accused
  - 2. attacked
  - 3. condemned
  - 4. criticised

Question ID : 264330164569  
Option 1 ID : 264330645464  
Option 2 ID : 264330645463  
Option 3 ID : 264330645466  
Option 4 ID : 264330645465  
Status : Answered  
Chosen Option : 1

**Q.13** Select the most appropriate option that can substitute the underlined segment in the given sentence. If there is no need to substitute it, select 'No substitution'.  
The teacher asked the students to be quite during the exam.

- Ans
- 1. have quiet
  - 2. No substitution
  - 3. be quiet
  - 4. been quiet

Question ID : 264330137494  
Option 1 ID : 264330538597  
Option 2 ID : 264330538598  
Option 3 ID : 264330538595  
Option 4 ID : 264330538596  
Status : Answered  
Chosen Option : 3

**Q.14** The following sentence has been divided into parts. One of them may contain an error. Select the part that contains the error from the given options. If you don't find any error, mark 'No error' as your answer.  
I am sure Helena / would passes / with flying colours.

- Ans
- 1. I am sure Helena
  - 2. would passes
  - 3. No error
  - 4. with flying colours

Question ID : 26433060175  
Option 1 ID : 264330235532  
Option 2 ID : 264330235533  
Option 3 ID : 264330235535  
Option 4 ID : 264330235534  
Status : Answered  
Chosen Option : 2

**Q.15** Select the most appropriate idiom to fill in the blank and complete the meaning of the sentence.

Most of the ministers are concerned with the \_\_\_\_\_ of office than the service of man.

- Ans
- 1. Herculean task
  - 2. wear and tear
  - 3. leaps and bounds
  - 4. loaves and fishes

Question ID : 264330120611  
Option 1 ID : 264330472683  
Option 2 ID : 264330472684  
Option 3 ID : 264330472686  
Option 4 ID : 264330472685  
Status : Answered  
Chosen Option : 2

**Q.16** Select the most appropriate idiom for the given situation focusing on the underlined segment.

I know every detail of his accident because I heard the facts directly from him.

- Ans
- 1. Pour one's heart out
  - 2. Straight from horse's mouth
  - 3. Speak of the devil
  - 4. Get something out of your system

Question ID : 264330163407  
Option 1 ID : 264330640907  
Option 2 ID : 264330640910  
Option 3 ID : 264330640909  
Option 4 ID : 264330640908  
Status : Answered  
Chosen Option : 2

**Q.17** Select the most appropriate meaning of the given idiom.

**Bite your tongue**

- Ans
- 1. To avoid saying something
  - 2. To have something explored
  - 3. To scold someone verbally
  - 4. To drink very heavily

Question ID : 26433092310  
Option 1 ID : 264330362539  
Option 2 ID : 264330362540  
Option 3 ID : 264330362538  
Option 4 ID : 264330362537  
Status : Answered  
Chosen Option : 3

**Q.18** Select the most appropriate option to fill in the blank.

Being courteous \_\_\_\_\_ costs you nothing.

- Ans
- 1. the
  - 2. No article required
  - 3. an
  - 4. a

Question ID : 264330145276  
Option 1 ID : 264330569359  
Option 2 ID : 264330569362  
Option 3 ID : 264330569361  
Option 4 ID : 264330569360  
Status : Answered  
Chosen Option : 1

**Q.19** Select the most appropriate meaning of the given idiom.  
To let the cat out of the bag

- Ans
- 1. To be in a hurry
  - 2. To reveal a secret
  - 3. To be careful
  - 4. To hide the truth

Question ID : 264330139774  
Option 1 ID : 264330547513  
Option 2 ID : 264330547511  
Option 3 ID : 264330547514  
Option 4 ID : 264330547512  
Status : Answered  
Chosen Option : 2

**Q.20** Select the most appropriate meaning of the underlined idiom.  
Doctors are raising hue and cry against the RTH bill.

- Ans
- 1. Protest
  - 2. Postpone
  - 3. Enquire
  - 4. Abandon

Question ID : 264330139489  
Option 1 ID : 264330546387  
Option 2 ID : 264330546390  
Option 3 ID : 264330546388  
Option 4 ID : 264330546389  
Status : Answered  
Chosen Option : 1

**Q.21** Select the most appropriate synonym of the given word.

Major

- Ans
- 1. Creviced
  - 2. Diligent
  - 3. Shallow
  - 4. Considerable

Question ID : 264330120279  
Option 1 ID : 264330471367  
Option 2 ID : 264330471369  
Option 3 ID : 264330471370  
Option 4 ID : 264330471368  
Status : Marked For Review  
Chosen Option : 4

Q.22 Select the most appropriate ANTONYM of the given word.

Ethical

- Ans  1. Mourning  
 2. Discord  
 3. Joyous  
 4. Immoral

Question ID : 264330163377

Option 1 ID : 264330640795

Option 2 ID : 264330640796

Option 3 ID : 264330640798

Option 4 ID : 264330640797

Status : Answered

Chosen Option : 4

Q.23 Select the most appropriate option that can substitute the underlined segment in the given sentence. If there is no need to substitute it, select 'No substitution required'.

The cat climbed a tree and perched itself on a branch.

- Ans  1. parched  
 2. No substitution required  
 3. perked  
 4. perished

Question ID : 26433090851

Option 1 ID : 264330356813

Option 2 ID : 264330356816

Option 3 ID : 264330356815

Option 4 ID : 264330356814

Status : Answered

Chosen Option : 1

Q.24 The following sentence has been split into four segments. Identify the segment that contains a grammatical error.

One of their freighters, / a Neptune, / will be leaving/ in two weeks.

- Ans  1. a Neptune  
 2. will be leaving  
 3. One of their freighters  
 4. in two weeks

Question ID : 264330117236

Option 1 ID : 264330461002

Option 2 ID : 264330461003

Option 3 ID : 264330461001

Option 4 ID : 264330461004

Status : Answered

Chosen Option : 1

**Q.25** Select the most appropriate meaning of the given idiom.  
**Pull yourself together**

- Ans**  1. Feel agitated  
 2. Calm down after an upsetting incident  
 3. Encourage the rich  
 4. Discourage the orphans

Question ID : 264330117375  
Option 1 ID : 264330461541  
Option 2 ID : 264330461544  
Option 3 ID : 264330461542  
Option 4 ID : 264330461543  
Status : Answered  
Chosen Option : 2

**Q.26** Select the INCORRECTLY spelt word

- Ans**  1. Legitimate  
 2. Promulgate  
 3. Exaggerate  
 4. Propagate

Question ID : 26433089354  
Option 1 ID : 264330350919  
Option 2 ID : 264330350920  
Option 3 ID : 264330350917  
Option 4 ID : 264330350918  
Status : Answered  
Chosen Option : 4

**Q.27** Select the most appropriate option that can substitute the underlined segment in the given sentence.  
Fifty rupees feels too much for such a pen.

- Ans**  1. minds  
 2. looks  
 3. price  
 4. seems

Question ID : 26433098972  
Option 1 ID : 264330388539  
Option 2 ID : 264330388538  
Option 3 ID : 264330388540  
Option 4 ID : 264330388537  
Status : Answered  
Chosen Option : 3

**Q.28** Select the option that can be used as a one-word substitute for the given group of words.

A person who eats too much

- Ans
- 1. Gullible
  - 2. Garrulous
  - 3. Greedy
  - 4. Glutton

Question ID : 264330164301

Option 1 ID : 264330644420

Option 2 ID : 264330644419

Option 3 ID : 264330644422

Option 4 ID : 264330644421

Status : Answered

Chosen Option : 4

**Q.29** Identify the error in tense and choose the correct form of the verb in present tense from the following options.

My teacher often forget the name of students.

- Ans
- 1. forgets
  - 2. was forgetting
  - 3. have been forgetting
  - 4. forgot

Question ID : 26433059189

Option 1 ID : 264330231635

Option 2 ID : 264330231634

Option 3 ID : 264330231633

Option 4 ID : 264330231632

Status : Marked For Review

Chosen Option : 1

**Q.30** The following sentence has been divided into parts. One of them may contain an error.

Select the part that contains the error from the given options. If you don't find any error, mark 'No error' as your answer.

He are very thirsty. / Give him / a little water to drink.

- Ans
- 1. He are very thirsty
  - 2. a little water to drink
  - 3. No error
  - 4. Give him

Question ID : 264330120598

Option 1 ID : 264330472631

Option 2 ID : 264330472633

Option 3 ID : 264330472634

Option 4 ID : 264330472632

Status : Answered

Chosen Option : 1

Q.31 Select the most appropriate ANTONYM of the given word.

Hideous

- Ans  1. Attractive  
 2. Lament  
 3. Healthful  
 4. Restorative

Question ID : 264330163427  
Option 1 ID : 264330640985  
Option 2 ID : 264330640984  
Option 3 ID : 264330640983  
Option 4 ID : 264330640986  
Status : Answered  
Chosen Option : 1

Q.32 Select the most appropriate meaning of the underlined idiom.

Technology has become a part and parcel of modern lifestyle.

- Ans  1. a myth  
 2. an obstacle  
 3. a useless part  
 4. an integral part

Question ID : 26433099086  
Option 1 ID : 264330388980  
Option 2 ID : 264330388978  
Option 3 ID : 264330388977  
Option 4 ID : 264330388979  
Status : Answered  
Chosen Option : 4

Q.33 Select the most appropriate option that can substitute the underlined segment in the given sentence.

The manager noticed a discrepancy between the two audit reports.

- Ans  1. deliberate mistake  
 2. major difference  
 3. selfish interest  
 4. great similarity

Question ID : 26433099882  
Option 1 ID : 264330392119  
Option 2 ID : 264330392120  
Option 3 ID : 264330392118  
Option 4 ID : 264330392117  
Status : Answered  
Chosen Option : 1



**Q.34** Select the most appropriate synonym of the given word.

**Diabolical**

- Ans**  1. Sycophant  
 2. Sophisticated  
 3. Malicious  
 4. Celestial

Question ID : 264330163395  
Option 1 ID : 264330640862  
Option 2 ID : 264330640861  
Option 3 ID : 264330640860  
Option 4 ID : 264330640859  
Status : Not Answered  
Chosen Option : --

**Q.35** Identify the option that rectifies the underlined spelling error in the given sentence.  
Mountainering is now looked upon as the king of sports.

- Ans**  1. Mountaineering  
 2. Mountainouring  
 3. Mountaineering  
 4. Mouteineering

Question ID : 264330117253  
Option 1 ID : 264330461069  
Option 2 ID : 264330461071  
Option 3 ID : 264330461072  
Option 4 ID : 264330461070  
Status : Answered  
Chosen Option : 1

**Q.36** Select the INCORRECTLY spelt word.

- Ans**  1. Comutter  
 2. Commission  
 3. Committee  
 4. Camouflage

Question ID : 264330123025  
Option 1 ID : 264330482165  
Option 2 ID : 264330482163  
Option 3 ID : 264330482164  
Option 4 ID : 264330482166  
Status : Answered  
Chosen Option : 4

**Q.37** Select the most appropriate synonym of the given word.  
**Vagrancy**

- Ans**  1. Exploration  
 2. Vagueness  
 3. Vagabond  
 4. Fragrance

Question ID : 26433099848  
Option 1 ID : 264330391992  
Option 2 ID : 264330391989  
Option 3 ID : 264330391991  
Option 4 ID : 264330391990  
Status : **Marked For Review**  
Chosen Option : 2

**Q.38** Select the most appropriate option that can substitute the underlined segment in the given sentence.

The platter was insipid, so we refused to pay the bill.

- Ans**  1. filled with dirt  
 2. lacking taste  
 3. full of flavours  
 4. full of spices

Question ID : 26433099886  
Option 1 ID : 264330392134  
Option 2 ID : 264330392136  
Option 3 ID : 264330392135  
Option 4 ID : 264330392133  
Status : **Answered**  
Chosen Option : 2

**Q.39** Select the option that can be used as a one-word substitute for the underlined group of words.

Children and adolescents with a morbid compulsion to steal experience a growing sense of tension just before stealing, followed by pleasure, relief or gratification during or just after stealing.

- Ans**  1. Kleptomania  
 2. Megalomania  
 3. Pyromania  
 4. Dipsomania

Question ID : 26433088834  
Option 1 ID : 264330348892  
Option 2 ID : 264330348890  
Option 3 ID : 264330348889  
Option 4 ID : 264330348891  
Status : **Answered**  
Chosen Option : 1

**Q.40** Select the option that will improve the underlined part of the given sentence. In case no improvement is needed, select 'No improvement required'.  
Lily has dedicate her life towards becoming a doctor.

- Ans
- 1. is dedicate
  - 2. has dedicated
  - 3. No improvement required
  - 4. had dedicate

Question ID : 26433060758  
Option 1 ID : 264330237806  
Option 2 ID : 264330237804  
Option 3 ID : 264330237807  
Option 4 ID : 264330237805  
Status : Answered  
Chosen Option : 2

**Comprehension:**

In the following passage some words have been deleted. Read the passage carefully and select the most appropriate option to fill in each blank.

The concept of motivation focuses on explaining what 'moves' behaviour. In fact, the term (1)\_\_\_\_\_ is derived from the Latin word 'movere', referring to movement of activity. Most of our everyday explanation of (2)\_\_\_\_\_ is given in terms of motives. Motives also help in making (3)\_\_\_\_\_ about behaviour. A person will work hard in school, in sports, in business, in music, and in many other situations, if he/she has a very strong need for (4)\_\_\_\_\_. Hence, motives are the general states that enable us to make predictions about behaviour in many different situations. In other words, motivation is one of the (5)\_\_\_\_\_ of behaviour. Instincts, drives, needs, goals, and incentives come under the broad cluster of motivation.

**SubQuestion No : 41**

**Q.41** Select the most appropriate option to fill in blank number 1.

- Ans
- 1. psychology
  - 2. human behaviour
  - 3. motivation
  - 4. instinct

Question ID : 264330163364  
Option 1 ID : 264330640743  
Option 2 ID : 264330640745  
Option 3 ID : 264330640744  
Option 4 ID : 264330640746  
Status : Answered  
Chosen Option : 3

**Comprehension:**

In the following passage some words have been deleted. Read the passage carefully and select the most appropriate option to fill in each blank.

The concept of motivation focuses on explaining what 'moves' behaviour. In fact, the term (1)\_\_\_\_\_ is derived from the Latin word 'movere', referring to movement of activity. Most of our everyday explanation of (2)\_\_\_\_\_ is given in terms of motives. Motives also help in making (3)\_\_\_\_\_ about behaviour. A person will work hard in school, in sports, in business, in music, and in many other situations, if he/she has a very strong need for (4)\_\_\_\_\_. Hence, motives are the general states that enable us to make predictions about behaviour in many different situations. In other words, motivation is one of the (5)\_\_\_\_\_ of behaviour. Instincts, drives, needs, goals, and incentives come under the broad cluster of motivation.

**SubQuestion No : 42**

**Q.42** Select the most appropriate option to fill in blank number 2.

- Ans
- 1. incentive
  - 2. goal
  - 3. behaviour
  - 4. motivation

Question ID : 264330163365

Option 1 ID : 264330640747

Option 2 ID : 264330640749

Option 3 ID : 264330640750

Option 4 ID : 264330640748

Status : Answered

Chosen Option : 3

**Comprehension:**

In the following passage some words have been deleted. Read the passage carefully and select the most appropriate option to fill in each blank.

The concept of motivation focuses on explaining what 'moves' behaviour. In fact, the term (1)\_\_\_\_\_ is derived from the Latin word 'movere', referring to movement of activity. Most of our everyday explanation of (2)\_\_\_\_\_ is given in terms of motives. Motives also help in making (3)\_\_\_\_\_ about behaviour. A person will work hard in school, in sports, in business, in music, and in many other situations, if he/she has a very strong need for (4)\_\_\_\_\_. Hence, motives are the general states that enable us to make predictions about behaviour in many different situations. In other words, motivation is one of the (5)\_\_\_\_\_ of behaviour. Instincts, drives, needs, goals, and incentives come under the broad cluster of motivation.

**SubQuestion No : 43**

**Q.43** Select the most appropriate option to fill in blank number 3.

- Ans
- 1. predictions
  - 2. clarifications
  - 3. directions
  - 4. decisions

Question ID : 264330163366

Option 1 ID : 264330640753

Option 2 ID : 264330640752

Option 3 ID : 264330640751

Option 4 ID : 264330640754

Status : Answered

Chosen Option : 4

**Comprehension:**

In the following passage some words have been deleted. Read the passage carefully and select the most appropriate option to fill in each blank.

The concept of motivation focuses on explaining what 'moves' behaviour. In fact, the term (1)\_\_\_\_\_ is derived from the Latin word 'movere', referring to movement of activity. Most of our everyday explanation of (2)\_\_\_\_\_ is given in terms of motives. Motives also help in making (3)\_\_\_\_\_ about behaviour. A person will work hard in school, in sports, in business, in music, and in many other situations, if he/she has a very strong need for (4)\_\_\_\_\_. Hence, motives are the general states that enable us to make predictions about behaviour in many different situations. In other words, motivation is one of the (5)\_\_\_\_\_ of behaviour. Instincts, drives, needs, goals, and incentives come under the broad cluster of motivation.

**SubQuestion No : 44**

**Q.44** Select the most appropriate option to fill in blank number 4.

- Ans
- 1. motivation
  - 2. grow
  - 3. desire
  - 4. achievements

Question ID : 264330163367

Option 1 ID : 264330640758

Option 2 ID : 264330640755

Option 3 ID : 264330640757

Option 4 ID : 264330640756

Status : Answered

Chosen Option : 4

**Comprehension:**

In the following passage some words have been deleted. Read the passage carefully and select the most appropriate option to fill in each blank.

The concept of motivation focuses on explaining what 'moves' behaviour. In fact, the term (1)\_\_\_\_\_ is derived from the Latin word 'movere', referring to movement of activity. Most of our everyday explanation of (2)\_\_\_\_\_ is given in terms of motives. Motives also help in making (3)\_\_\_\_\_ about behaviour. A person will work hard in school, in sports, in business, in music, and in many other situations, if he/she has a very strong need for (4)\_\_\_\_\_. Hence, motives are the general states that enable us to make predictions about behaviour in many different situations. In other words, motivation is one of the (5)\_\_\_\_\_ of behaviour. Instincts, drives, needs, goals, and incentives come under the broad cluster of motivation.

**SubQuestion No : 45**

**Q.45** Select the most appropriate option to fill in blank number 5.

- Ans
- 1. ways
  - 2. meaning
  - 3. causes
  - 4. determinants

Question ID : 264330163368

Option 1 ID : 264330640762

Option 2 ID : 264330640761

Option 3 ID : 264330640759

Option 4 ID : 264330640760

Status : Answered

Chosen Option : 1

### Comprehension:

Read the given passage carefully and answer the questions that follow.

The rise of social media has undoubtedly changed the way we communicate with one another. It has connected people from all over the world and provided a platform for voices that were once silenced. However, as with any form of communication, social media has its downsides.

One of the most significant downsides is the spread of misinformation. With the rise of social media, anyone can become a content creator, which means that anyone can share information without fact-checking or considering the consequences. This has led to a proliferation of false information, from conspiracy theories to hoaxes, that can quickly spread and cause harm.

One recent example of this is the COVID-19 pandemic. Social media has played a significant role in the spread of misinformation about the virus and the vaccines. False claims about the safety and effectiveness of the vaccines have caused many people to be hesitant or outright refuse to get vaccinated. This, in turn, has led to the prolongation of the pandemic and the loss of many lives.

The spread of misinformation on social media is not a new phenomenon. In fact, it has been around for centuries. However, the speed and ease with which misinformation can spread on social media have made it a particularly pernicious problem in our modern world.

Throughout history, misinformation has been used to sow discord and manipulate people. For example, during World War II, the Nazi regime used propaganda to spread false information about Jews, Roma, and other targeted groups in order to justify their persecution and ultimately their extermination. Similarly, during the Cold War, both the United States and the Soviet Union used propaganda to demonise one another and sway public opinion.

The difference now is that social media has made it easier than ever to spread false information. A single post or tweet can reach millions of people within seconds, and it can be difficult to counteract the effects of that misinformation once it has spread.

So, what can we do about it? The answer is not simple, but it starts with education. We need to teach people how to think critically, how to fact-check, and how to discern between credible sources and fake news. We also need to hold social media companies accountable for the content on their platforms and ensure that they are doing their part to combat the spread of misinformation.

In short, the rise of social media has given us a powerful tool for communication, but we must use it wisely. We must be vigilant against the spread of misinformation and work together to ensure that the information we consume and share is accurate and reliable.

### SubQuestion No : 46

**Q.46 Identify the main theme of the passage.**

- Ans
- 1. The benefits of social media for communication.
  - 2. The role of education in combating misinformation.
  - 3. The significance of propaganda and misinformation.
  - 4. The dangers of spreading false information on social media.

Question ID : 264330165145

Option 1 ID : 264330647679

Option 2 ID : 264330647682

Option 3 ID : 264330647680

Option 4 ID : 264330647681

Status : Answered

Chosen Option : 4

### Comprehension:

Read the given passage carefully and answer the questions that follow.

The rise of social media has undoubtedly changed the way we communicate with one another. It has connected people from all over the world and provided a platform for voices that were once silenced. However, as with any form of communication, social media has its downsides.

One of the most significant downsides is the spread of misinformation. With the rise of social media, anyone can become a content creator, which means that anyone can share information without fact-checking or considering the consequences. This has led to a proliferation of false information, from conspiracy theories to hoaxes, that can quickly spread and cause harm.

One recent example of this is the COVID-19 pandemic. Social media has played a significant role in the spread of misinformation about the virus and the vaccines. False claims about the safety and effectiveness of the vaccines have caused many people to be hesitant or outright refuse to get vaccinated. This, in turn, has led to the prolongation of the pandemic and the loss of many lives.

The spread of misinformation on social media is not a new phenomenon. In fact, it has been around for centuries. However, the speed and ease with which misinformation can spread on social media have made it a particularly pernicious problem in our modern world.

Throughout history, misinformation has been used to sow discord and manipulate people. For example, during World War II, the Nazi regime used propaganda to spread false information about Jews, Roma, and other targeted groups in order to justify their persecution and ultimately their extermination. Similarly, during the Cold War, both the United States and the Soviet Union used propaganda to demonise one another and sway public opinion.

The difference now is that social media has made it easier than ever to spread false information. A single post or tweet can reach millions of people within seconds, and it can be difficult to counteract the effects of that misinformation once it has spread.

So, what can we do about it? The answer is not simple, but it starts with education. We need to teach people how to think critically, how to fact-check, and how to discern between credible sources and fake news. We also need to hold social media companies accountable for the content on their platforms and ensure that they are doing their part to combat the spread of misinformation.

In short, the rise of social media has given us a powerful tool for communication, but we must use it wisely. We must be vigilant against the spread of misinformation and work together to ensure that the information we consume and share is accurate and reliable.

### SubQuestion No : 47

**Q.47** What is the author's opinion of social media in this passage?

- Ans
- 1. Social media is a powerful tool for communication that has many benefits.
  - 2. Social media has had a mostly positive impact on society, despite some drawbacks.
  - 3. Social media is responsible for the spread of false information, but its impact on society is otherwise neutral.
  - 4. Social media has changed the way we communicate, but has also brought about significant negative consequences.

Question ID : 264330165148

Option 1 ID : 264330647691

Option 2 ID : 264330647692

Option 3 ID : 264330647694

Option 4 ID : 264330647693

Status : Answered

Chosen Option : 4

### Comprehension:

Read the given passage carefully and answer the questions that follow.

The rise of social media has undoubtedly changed the way we communicate with one another. It has connected people from all over the world and provided a platform for voices that were once silenced. However, as with any form of communication, social media has its downsides.

One of the most significant downsides is the spread of misinformation. With the rise of social media, anyone can become a content creator, which means that anyone can share information without fact-checking or considering the consequences. This has led to a proliferation of false information, from conspiracy theories to hoaxes, that can quickly spread and cause harm.

One recent example of this is the COVID-19 pandemic. Social media has played a significant role in the spread of misinformation about the virus and the vaccines. False claims about the safety and effectiveness of the vaccines have caused many people to be hesitant or outright refuse to get vaccinated. This, in turn, has led to the prolongation of the pandemic and the loss of many lives.

The spread of misinformation on social media is not a new phenomenon. In fact, it has been around for centuries. However, the speed and ease with which misinformation can spread on social media have made it a particularly pernicious problem in our modern world.

Throughout history, misinformation has been used to sow discord and manipulate people. For example, during World War II, the Nazi regime used propaganda to spread false information about Jews, Roma, and other targeted groups in order to justify their persecution and ultimately their extermination. Similarly, during the Cold War, both the United States and the Soviet Union used propaganda to demonise one another and sway public opinion.

The difference now is that social media has made it easier than ever to spread false information. A single post or tweet can reach millions of people within seconds, and it can be difficult to counteract the effects of that misinformation once it has spread.

So, what can we do about it? The answer is not simple, but it starts with education. We need to teach people how to think critically, how to fact-check, and how to discern between credible sources and fake news. We also need to hold social media companies accountable for the content on their platforms and ensure that they are doing their part to combat the spread of misinformation.

In short, the rise of social media has given us a powerful tool for communication, but we must use it wisely. We must be vigilant against the spread of misinformation and work together to ensure that the information we consume and share is accurate and reliable.

#### SubQuestion No : 48

**Q.48** What is the ANTONYM of the word 'accurate', " as used in the passage?

- Ans
- 1. Reliable
  - 2. Precise
  - 3. Inexact
  - 4. Correct

Question ID : 264330165147

Option 1 ID : 264330647689

Option 2 ID : 264330647687

Option 3 ID : 264330647688

Option 4 ID : 264330647690

Status : Marked For Review

Chosen Option : 3



### Comprehension:

Read the given passage carefully and answer the questions that follow.

The rise of social media has undoubtedly changed the way we communicate with one another. It has connected people from all over the world and provided a platform for voices that were once silenced. However, as with any form of communication, social media has its downsides.

One of the most significant downsides is the spread of misinformation. With the rise of social media, anyone can become a content creator, which means that anyone can share information without fact-checking or considering the consequences. This has led to a proliferation of false information, from conspiracy theories to hoaxes, that can quickly spread and cause harm.

One recent example of this is the COVID-19 pandemic. Social media has played a significant role in the spread of misinformation about the virus and the vaccines. False claims about the safety and effectiveness of the vaccines have caused many people to be hesitant or outright refuse to get vaccinated. This, in turn, has led to the prolongation of the pandemic and the loss of many lives.

The spread of misinformation on social media is not a new phenomenon. In fact, it has been around for centuries. However, the speed and ease with which misinformation can spread on social media have made it a particularly pernicious problem in our modern world.

Throughout history, misinformation has been used to sow discord and manipulate people. For example, during World War II, the Nazi regime used propaganda to spread false information about Jews, Roma, and other targeted groups in order to justify their persecution and ultimately their extermination. Similarly, during the Cold War, both the United States and the Soviet Union used propaganda to demonise one another and sway public opinion.

The difference now is that social media has made it easier than ever to spread false information. A single post or tweet can reach millions of people within seconds, and it can be difficult to counteract the effects of that misinformation once it has spread.

So, what can we do about it? The answer is not simple, but it starts with education. We need to teach people how to think critically, how to fact-check, and how to discern between credible sources and fake news. We also need to hold social media companies accountable for the content on their platforms and ensure that they are doing their part to combat the spread of misinformation.

In short, the rise of social media has given us a powerful tool for communication, but we must use it wisely. We must be vigilant against the spread of misinformation and work together to ensure that the information we consume and share is accurate and reliable.

### SubQuestion No : 49

**Q.49** According to the passage, which of the following is NOT a cause of the spread of false information on social media?

- Ans
- 1. Lack of education and critical thinking skills among social media users.
  - 2. Social media companies' failure to regulate false information on their platforms.
  - 3. The desire of people to engage in controversial and sensational content.
  - 4. Inability to discern between credible sources and fake news.

Question ID : 264330165146

Option 1 ID : 264330647685

Option 2 ID : 264330647686

Option 3 ID : 264330647684

Option 4 ID : 264330647683

Status : **Marked For Review**

Chosen Option : 3

### Comprehension:

Read the given passage carefully and answer the questions that follow.

The rise of social media has undoubtedly changed the way we communicate with one another. It has connected people from all over the world and provided a platform for voices that were once silenced. However, as with any form of communication, social media has its downsides.

One of the most significant downsides is the spread of misinformation. With the rise of social media, anyone can become a content creator, which means that anyone can share information without fact-checking or considering the consequences. This has led to a proliferation of false information, from conspiracy theories to hoaxes, that can quickly spread and cause harm.

One recent example of this is the COVID-19 pandemic. Social media has played a significant role in the spread of misinformation about the virus and the vaccines. False claims about the safety and effectiveness of the vaccines have caused many people to be hesitant or outright refuse to get vaccinated. This, in turn, has led to the prolongation of the pandemic and the loss of many lives.

The spread of misinformation on social media is not a new phenomenon. In fact, it has been around for centuries. However, the speed and ease with which misinformation can spread on social media have made it a particularly pernicious problem in our modern world.

Throughout history, misinformation has been used to sow discord and manipulate people. For example, during World War II, the Nazi regime used propaganda to spread false information about Jews, Roma, and other targeted groups in order to justify their persecution and ultimately their extermination. Similarly, during the Cold War, both the United States and the Soviet Union used propaganda to demonise one another and sway public opinion.

The difference now is that social media has made it easier than ever to spread false information. A single post or tweet can reach millions of people within seconds, and it can be difficult to counteract the effects of that misinformation once it has spread.

So, what can we do about it? The answer is not simple, but it starts with education. We need to teach people how to think critically, how to fact-check, and how to discern between credible sources and fake news. We also need to hold social media companies accountable for the content on their platforms and ensure that they are doing their part to combat the spread of misinformation.

In short, the rise of social media has given us a powerful tool for communication, but we must use it wisely. We must be vigilant against the spread of misinformation and work together to ensure that the information we consume and share is accurate and reliable.

### SubQuestion No : 50

**Q.50** What is the author's purpose in writing this passage?

- Ans
- 1. To provide an in-depth analysis of the benefits of social media for communication.
  - 2. To persuade readers to delete their social media accounts.
  - 3. To warn readers of the dangers of spreading false information on social media.
  - 4. To explain the history of propaganda and misinformation and its impact on society.

Question ID : 264330165149

Option 1 ID : 264330647695

Option 2 ID : 264330647698

Option 3 ID : 264330647697

Option 4 ID : 264330647696

Status : Answered

Chosen Option : 3