

Q.10 तीन कथनों के बाद तीन निष्कर्ष I, II और III दिए गए हैं। कथनों को सत्य मानते हुए, भले ही वे सामान्य रूप से ज्ञात तथ्यों से भिन्न प्रतीत होते हों, निर्धारित करें कि कौन-सा/से निष्कर्ष कथनों का तार्किक रूप से अनुसरण करता है/करते हैं।

कथन:

कुछ पंखे बड़े हैं।
सभी बड़े कोट हैं।
कुछ कोट फ्लैट हैं।

निष्कर्ष:

I. सभी पंखे बड़े हैं।
II. कुछ कोट बड़े हैं।
III. कुछ फ्लैट कोट हैं।

- Ans 1. निष्कर्ष I और III दोनों अनुसरण करते हैं।
 2. निष्कर्ष II और III दोनों अनुसरण करते हैं।
 3. निष्कर्ष I और II दोनों अनुसरण करते हैं।
 4. सभी निष्कर्ष अनुसरण करते हैं।

Question ID : 26433074636

Status : Answered

Chosen Option : 2

Q.11 निम्नलिखित में से कौन-सी संख्या दी गई श्रंखला में प्रश्न-चिह्न (?) के स्थान पर आएगी?
3, 11, 27, 59 ?

- Ans 1. 118
 2. 127
 3. 123
 4. 111

Question ID : 26433067880

Status : Answered

Chosen Option : 3

Q.12 उस समुच्चय का चयन करें, जिसकी संख्याओं के बीच ठीक वही संबंध है, जो संबंध निम्नांकित समुच्चयों की संख्याओं में हैं।

(नोट: संख्याओं को उसके घटक अंकों में विभाजित किए बिना, पूर्ण संख्याओं पर ही गणितीय संक्रियाएँ की जानी चाहिए। जैसे 13 - मान लीजिए 13 पर गणितीय संक्रियाएँ जैसे कि 13 में जोड़ना/घटाना/गुणा करना आदि किया जा सकता है। 13 को 1 और 3 में तोड़कर और फिर 1 और 3 पर गणितीय संक्रियाएँ करने की अनुमति नहीं है।)

(6, 9, 324)
(5, 8, 240)

- Ans 1. (10, 6, 360)
 2. (9, 5, 260)
 3. (9, 4, 232)
 4. (8, 5, 280)

Question ID : 26433076538

Status : Not Answered

Chosen Option : --

Constable GD in CAPFs SSF Rifleman GD in Assam Rifles and Sepoy in NCB Examination 2022

Roll Number	KD Job Updates
Candidate Name	KD Job Updates
Venue Name	Thirumala Education Academy
Exam Date	10/01/2023
Exam Time	9:00 AM - 10:00 AM
Subject	Constable GD Examination 2022

Section : Part-A-General Intelligence and Reasoning

Q.1 उस विकल्प का चयन कीजिए जो पांचवें अक्षर-समूह से उसी प्रकार संबंधित है जिस प्रकार दूसरा अक्षर-समूह पहले अक्षर-समूह से संबंधित है और चौथा अक्षर-समूह तीसरे अक्षर-समूह से संबंधित है।
YOUR: XPEJ :: TONE: SPLW :: BANK: ?

- Ans
- 1. CBOL
 - 2. ABLQ
 - 3. YZMP
 - 4. XYOP

Question ID : 26433057494

Status : Answered

Chosen Option : 2

Q.2 उस विकल्प का चयन कीजिए जो पांचवें अक्षर-समूह से उसी प्रकार संबंधित है जिस प्रकार दूसरा अक्षर-समूह पहले अक्षर-समूह से संबंधित है और चौथा अक्षर-समूह तीसरे अक्षर-समूह से संबंधित है।
COMFORT : OCFMTRO :: CONTROL : OCTNLOR :: DIGITAL : ?

- Ans
- 1. GITALDI
 - 2. GIDLATI
 - 3. LATIGID
 - 4. IDIGLAT

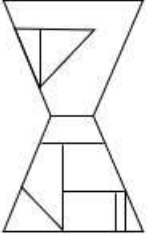
Question ID : 26433069633

Status : Answered

Chosen Option : 4

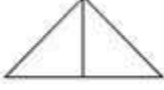
Q.3 वह विकल्प चित्र चुनिए, जो प्रस्तुत चित्र में अंतर्निहित है। (घुमाना अनुमन्य नहीं है)

है)



Ans

✗ 1.



✓ 2.



✗ 3.



✗ 4.



Question ID : 26433069337

Status : Answered

Chosen Option : 2

Q.4 किस विकल्प में निम्नलिखित शब्दों का वह क्रम दिया गया है, जिस क्रम में वे अंग्रेजी शब्दकोश में आते हैं?

1 manner

2 manage

3 masculine

4 magic

5 matter

Ans ✓ 1. 4,2,1,3,5

✗ 2. 1,4,3,2,5

✗ 3. 4,1,2,5,3

✗ 4. 1,2,4,3,5

Question ID : 26433069285

Status : Answered

Chosen Option : 1

Q.5 छह व्यक्ति एक वृत्ताकार मेज के परितः केंद्र की ओर मुख करके बैठे हैं। काया, जया और तारा के ठीक बगल में है। सोनल, प्रिया और स्वाति के ठीक बगल में है। सोनल, प्रिया के दाईं ओर ठीक बगल में बैठी है, तारा और स्वाति एक दूसरे के ठीक बगल में नहीं बैठी हैं। प्रिया के बाईं ओर ठीक बगल में कौन बैठी है?

- Ans
- 1. स्वाति
 - 2. जया
 - 3. काया
 - 4. तारा

Question ID : 26433069665

Status : Answered

Chosen Option : 4

Q.6 नीचे दिए गए समीकरण को गणितीय रूप से सही बनाने के लिए किन दो चिन्हों को परस्पर बदलना चाहिए?

$$72 \times 6 + 18 \div 5 - 9 = 93$$

- Ans
- 1. ÷ और -
 - 2. × और +
 - 3. + और -
 - 4. × और ÷

Question ID : 264330117495

Status : Answered

Chosen Option : 4

Q.7 'A + B' का अर्थ है 'B, A का पिता है'
'A # B' का अर्थ है 'B, A की बहन है'
'A @ B' का अर्थ है 'B, A का भाई है'
यदि A @ B # C + D + E है, तो E, A से किस प्रकार संबंधित है?

- Ans
- 1. दादा
 - 2. पिता
 - 3. चाचा/ताऊ
 - 4. पुत्र

Question ID : 26433068535

Status : Answered

Chosen Option : 1

Q.8 यदि श्रृंखला जारी रखनी है तो कौन-सी आकृति प्रश्न चिह्न (?) के स्थान पर

आएगी?

↑ O 2 B Δ	O 2 B Δ ↑	Δ ↑ U O 2	↑ U O 2 Δ	?
-----------	-----------	-----------	-----------	---

Ans

✓ 1. 2 Δ ☆ ↑ U

✗ 2. Δ 2 F U ↑

✗ 3. Δ 2 O U ↑

✗ 4. 2 Δ O ↑ U

KD Job Updates

Question ID : 26433076637

Status : Answered

Chosen Option : 4

Q.9 उस समुच्चय का चयन करें, जिसमें संख्याएँ उसी प्रकार संबंधित हैं, जिस प्रकार निम्नलिखित समुच्चयों की संख्याएँ हैं।
(नोट: संख्याओं को उसके घटक अंकों में विभाजित किए बिना, पूर्ण संख्याओं पर ही गणितीय संक्रियाएँ की जानी चाहिए। जैसे 13 - मान लीजिए 13 पर गणितीय संक्रियाएँ जैसे कि 13 में जोड़ना/घटाना/गुणा करना आदि किया जा सकता है। 13 को 1 और 3 में तोड़कर और फिर 1 और 3 पर गणितीय संक्रियाएँ करने की अनुमति नहीं है।)
(20, 30, 450)
(35, 25, 540)

- Ans 1. (7, 18, 225)
 2. (20, 9, 297)
 3. (8, 15, 227)
 4. (9, 17, 264)

Question ID : 26433076487

Status : Answered

Chosen Option : 1

Q.10 एक निश्चित कूट भाषा में, 'cart light' को 'straw handle' के रूप में कूटबद्ध किया जाता है, 'plug light' को 'toes handle' के रूप में कूटबद्ध किया जाता है और 'cart plug' को 'toes straw' के रूप में कूटबद्ध किया जाता है। 'cart' के लिए कूट शब्द क्या होगा?

- Ans 1. handle
 2. straw
 3. toes
 4. plug

Question ID : 26433079367

Status : Answered

Chosen Option : 2

Q.11 कौन-सा अक्षर-समूह दी गई श्रृंखला में प्रश्नचिह्न (?) के स्थान पर आकर श्रृंखला को पूर्ण करेगा?
ZACF, WXZC, ?, QRTW, NOQT

- Ans 1. XUVZ
 2. TUWZ
 3. XUYZ
 4. VWZC

Question ID : 26433067712

Status : Answered

Chosen Option : 2

Q.12 निम्नलिखित में से कौन-सी संख्या दी गई श्रृंखला में प्रश्नचिह्न (?) के स्थान पर आएगी?
33, 47, 44, 58, 56, 70, 69, ?

- Ans 1. 80
 2. 83
 3. 84
 4. 82

Question ID : 26433067879

Status : Answered

Chosen Option : 2

Q.13 एक निश्चित कूट भाषा में, FORCE को 47 के रूप में कूटबद्ध किया जाता और GREEN को 49 के रूप में कूटबद्ध किया जाता है। उसी भाषा में FLAVOUR को किस प्रकार कूटबद्ध किया जाएगा?

- Ans
- 1. 95
 - 2. 100
 - 3. 98
 - 4. 92

Question ID : 26433067995

Status : Answered

Chosen Option : 1

Q.14 नीचे दिए गए समीकरण को गणितीय रूप से सही बनाने के लिए किन दो गणितीय चिह्नों को परस्पर बदलना चाहिए?

$$42 + 16 \div 7 - 36 \times 16 = 76$$

- Ans
- 1. + और -
 - 2. ÷ और ×
 - 3. × और +
 - 4. ÷ और +

Question ID : 264330114197

Status : Answered

Chosen Option : 3

Q.15 इस प्रश्न में तीन कथन दिए गए हैं, जिसके बाद दो निष्कर्ष I और II दिए गए हैं। कथनों को सत्य मानते हुए, भले ही वे सर्वज्ञात तथ्यों से भिन्न प्रतीत होते हों, निर्णय कीजिए कि कौन-सा/से निष्कर्ष कथनों का तार्किक रूप से अनुसरण करता है/अनुसरण करते हैं।

कथन:

सभी बोटलें बैग हैं।

कुछ बैग पेंसिलें हैं।

कुछ पेंसिलें शार्पनर हैं।

निष्कर्ष:

I. कुछ शार्पनर बोटलें हैं।

II. कुछ बोटलें पेंसिलें हैं।

- Ans
- 1. निष्कर्ष I और II दोनों अनुसरण करते हैं।
 - 2. केवल निष्कर्ष II अनुसरण करता है।
 - 3. न तो निष्कर्ष I और न ही II अनुसरण करता है।
 - 4. केवल निष्कर्ष I अनुसरण करता है।

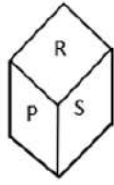
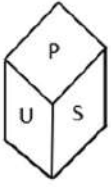
Question ID : 26433070393

Status : Answered

Chosen Option : 3

Q.16 एक ही पासे की दो अलग-अलग स्थितियों को दर्शाया गया है जिस पर P से U अक्षर बने हैं। 'U' दर्शाने

वाले फलक के विपरीत फलक पर बना अक्षर ज्ञात कीजिए।



- Ans
- 1. Q
 - 2. T
 - 3. S
 - 4. R

Question ID : 26433085526

Status : Answered

Chosen Option : 4

Q.17 छः सहकर्मी - A, B, C, D, E और F, एक साथ एक वृत्ताकार मेज पर वृत्त के केंद्र की ओर मुख करके एक दूसरे से समान दूरी पर बैठकर भोजन कर रहे हैं। D, E और B के ठीक बगल में बैठा है, जबकि C, A और F के ठीक बगल में बैठा है। यदि A, E के बाईं ओर ठीक बगल में बैठा है, तो C के बाईं ओर ठीक बगल में कौन बैठा है?

- Ans
- 1. B
 - 2. F
 - 3. D
 - 4. E

Question ID : 26433079052

Status : Answered

Chosen Option : 2

Q.18 निम्नलिखित में से कौन-सी संख्या दी गई श्रृंखला में प्रश्न चिह्न (?) के स्थान पर आएगी?
1, 6, 31, 156, ?, 3906

- Ans
- 1. 2125
 - 2. 781
 - 3. 1225
 - 4. 985

Question ID : 26433070219

Status : Answered

Chosen Option : 2

Q.19 दर्पण को नीचे दिए गए चित्र के अनुसार MN पर रखे जाने पर दी गई आकृति

का दर्पण में निर्मित सही प्रतिबिंब चयनित कीजिए।

C L k v 3 8 z

M _____ N

- Ans
- ✗ 1. C T K ^ E 8 z
 - ✗ 2. C T K ^ 3 8 z
 - ✓ 3. C T K ^ 3 8 z
 - ✗ 4. z 8 E v k j c

Question ID : 26433080804

Status : Answered

Chosen Option : 3

Q.20 निम्नलिखित में से कौन-सा पद दी गई शृंखला में प्रश्न-चिह्न (?) के स्थान पर आएगा?
EZf, GXH, KTL, QNR, ?

- Ans
- ✗ 1. YGY
 - ✗ 2. XFZ
 - ✗ 3. WEY
 - ✓ 4. YFZ

Question ID : 26433068304

Status : Answered

Chosen Option : 1

Section : Part-B-General Knowledge and General awareness

Q.1 निम्नलिखित में से कौन सा महाराष्ट्र का धन्यवादज्ञापन (thanksgiving) उत्सव है, जहाँ बैलों को सम्मानित किया जाता है क्योंकि उन्हें खेती के लिए अत्यावश्यक माना जाता है?

- Ans
- ✗ 1. काला घोड़ा कला महोत्सव
 - ✗ 2. गुड़ी पड़वा
 - ✗ 3. मकर संक्रांति
 - ✓ 4. पोला महोत्सव

Question ID : 264330106205

Status : Answered

Chosen Option : 2

Q.2 मॉस और मार्केशिया, निम्नलिखित में से किस के अंतर्गत आते हैं?

- Ans
- 1. शैवाल
 - 2. अनावृतबीजी
 - 3. ब्रायोफ़ाइटा
 - 4. टेरिडोफ़ाइटा

Question ID : 264330115210

Status : Not Answered

Chosen Option : --

Q.3 जागोई भारतीय शास्त्रीय नृत्य के निम्नलिखित में से किस नृत्य रूप की एक प्रमुख शैली है?

- Ans
- 1. मणिपुरी
 - 2. सत्रीया
 - 3. ओडिसी
 - 4. कथक

Question ID : 26433070839

Status : Not Answered

Chosen Option : --

Q.4 जीवाश्म ईंधन के जलने से होने वाले प्रदूषण को कम करने के तरीके की पहचान करें।

- Ans
- 1. गुप्त ऊष्मा को कम करके
 - 2. कार्बन अणुओं की संख्या में वृद्धि करके
 - 3. दहन प्रक्रिया की दक्षता में वृद्धि करके
 - 4. प्रदाह का तापमान कम करके

Question ID : 26433096234

Status : Not Answered

Chosen Option : --

Q.5 निम्न में से क्या सातवीं पंचवर्षीय योजना के मुख्य उद्देश्यों में से एक था?

- Ans
- 1. जीवन स्तर में सुधार
 - 2. खाद्यान्नों के उत्पादन में वृद्धि
 - 3. अवसंरचना में वृद्धि
 - 4. गरीबी उन्मूलन

Question ID : 264330116126

Status : Not Answered

Chosen Option : --

Q.6 किसने सितंबर 2022 में कोच्चि में भारत के पहले स्वदेशी एयरक्राफ्ट कैरियर आईएनएस विक्रान्त को प्रमाणित (कमीशंड) किया?

- Ans
- 1. अमित शाह
 - 2. नरेंद्र मोदी
 - 3. ज्योतिरादित्य सिंधिया
 - 4. राजनाथ सिंह

Question ID : 264330114916
Status : Answered
Chosen Option : 2

Q.7 _____ वस्त्र मंत्रालय के अंतर्गत आता/आती है।

- Ans
- 1. MPLADS (संसद सदस्य स्थानीय क्षेत्र विकास योजना)
 - 2. अम्बेकर सोशल इनोवेशन एंड इनक्यूबेशन मिशन
 - 3. समर्थ योजना
 - 4. मर्चेडाइज एक्सपोर्ट फ्रॉम इंडिया स्कीम

Question ID : 264330116173
Status : Not Answered
Chosen Option : --

Q.8 निम्नलिखित में से किस मौर्य राजा के शासनकाल में कलिंग युद्ध लड़ा गया था?

- Ans
- 1. दशरथ
 - 2. चंद्रगुप्त
 - 3. बिंदुसार
 - 4. अशोक

Question ID : 264330115454
Status : Answered
Chosen Option : 4

Q.9 भारत के राष्ट्रपति का चुनाव _____ द्वारा किया जाता है।

- Ans
- 1. केवल राज्यसभा के सदस्यों
 - 2. संसद के दोनों सदनों के निर्वाचित सदस्यों और राज्य विधान सभाओं
 - 3. केवल राज्य विधानसभाओं के सदस्यों
 - 4. केवल संसद के दोनों सदनों के निर्वाचित सदस्यों

Question ID : 264330115663
Status : Answered
Chosen Option : 2

Q.10 तपन कुमार पटनायक ने किस नृत्य शैली में संगीत नाटक अकादमी पुरस्कार जीता है?

- Ans
- 1. कुचिपुड़ी
 - 2. ओडिसी
 - 3. सत्रीया
 - 4. छऊ

Question ID : 264330115827
Status : Not Answered
Chosen Option : --

Q.11 महात्मा गांधी (नई) शृंखला के 2000 रु के बैंकनोट के पृष्ठभाग पर _____ का चित्र है।

- Ans
- 1. लाल किला
 - 2. मंगलयान
 - 3. सूर्य मंदिर, कोणार्क
 - 4. रानी की वाव

Question ID : 264330115382
Status : Answered
Chosen Option : 2

Q.12 भारतीय संविधान के मूल लेख में _____ अनुच्छेद थे।

- Ans
- 1. 395
 - 2. 440
 - 3. 386
 - 4. 376

Question ID : 264330115691
Status : Answered
Chosen Option : 1

Q.13 आपातकाल के दौरान किन मौलिक अधिकारों को निलंबित नहीं किया जा सकता है?

- Ans
- 1. अनुच्छेद 16-17
 - 2. अनुच्छेद 14-15
 - 3. अनुच्छेद 20-21
 - 4. अनुच्छेद 18-19

Question ID : 264330115617
Status : Answered
Chosen Option : 3

Q.14 1958 में डोवर से कैलिस तक इंग्लिश चैनल को पार करने वाले पहले भारतीय कौन थे, जो 1966 में एक कैलेंडर वर्ष में पांच महाद्वीपों के महासागरों में तैराकी करने वाले एकमात्र व्यक्ति भी थे?

- Ans
- 1. मिहिर सेन
 - 2. खशाबा जाधव
 - 3. अजीत पटेल
 - 4. रामनाथन कृष्णन

Question ID : 26433089924
Status : Answered
Chosen Option : 1

Q.15 कौन-सी अक्षांश रेखा भारत के मध्य से होकर गुजरती है जो देश की जलवायु को प्रभावित करती है?

- Ans
- 1. मकर रेखा
 - 2. भूमध्य रेखा
 - 3. अंटार्कटिक वृत्त
 - 4. कर्क रेखा

Question ID : 264330115984
Status : Answered
Chosen Option : 4

Q.16 ऐसी राजस्व प्राप्तियां जिनका सरकार पर दावा नहीं होता है, क्या कहलाती हैं?

- Ans
- 1. गैर प्रतिदेय
 - 2. पूंजीगत प्राप्तियां
 - 3. सुदृढ़ करने में सक्षम
 - 4. प्रतिदेय

Question ID : 264330115282
Status : Not Answered
Chosen Option : --

Q.17 2017-18 में विजय हजारे ट्रॉफी किस राज्य ने जीती थी?

- Ans
- 1. कर्नाटक
 - 2. महाराष्ट्र
 - 3. केरल
 - 4. उत्तर प्रदेश

Question ID : 264330116255
Status : Not Answered
Chosen Option : --

Q.18 अगस्त 2022 में, उत्तराखंड सरकार के "राज्य ब्रांड एंबेसडर" के रूप में किसे नियुक्त किया गया?

- Ans
- 1. रोहित शेट्टी
 - 2. अक्षय कुमार
 - 3. ऋषभ पंत
 - 4. दिनेश कार्तिक

Question ID : 264330114985

Status : Answered

Chosen Option : 3

Q.19 भारत में अरेबिका कॉफी कौन-से राज्य में उगाई जाती है?

- Ans
- 1. असम
 - 2. उत्तराखंड
 - 3. पश्चिम बंगाल
 - 4. कर्नाटक

Question ID : 264330115529

Status : Answered

Chosen Option : 4

Q.20 भारत में पहली संपूर्ण जनगणना कब की गई थी?

- Ans
- 1. 1887
 - 2. 1882
 - 3. 1880
 - 4. 1881

Question ID : 264330116036

Status : Answered

Chosen Option : 2

Q.1 एक व्यक्ति गंतव्य तक पहुँचने के लिए चार अलग-अलग रास्तों से साइकिल चलाता है। इस पूरी यात्रा के दौरान औसत गति ज्ञात कीजिए।

रास्ता	गति (km/h)	दूरी (km)
A	5	20
B	3	15
C	2	10
D	4	24

Ans
✓ 1. $3.45 \frac{\text{km}}{\text{hr}}$

✗ 2. $4.5 \frac{\text{km}}{\text{hr}}$

✗ 3. $5.5 \frac{\text{km}}{\text{hr}}$

✗ 4. $2.45 \frac{\text{km}}{\text{hr}}$

Question ID : 26433076001

Status : Answered

Chosen Option : 1

Q.2 यदि $(5x - 2y) : (x - 2y) = 9 : 17$ है, तो $\frac{9x}{13y}$ का मान ज्ञात कीजिए।

Ans
✓ 1. $\frac{36}{247}$

✗ 2. $\frac{151}{1731}$

✗ 3. $\frac{144}{1001}$

✗ 4. $\frac{72}{421}$

Question ID : 26433080030

Status : Answered

Chosen Option : 1

Q.3 एक डीलर ने एक वस्तु पर 72000 रुपए के अंकित मूल्य पर 20 प्रतिशत की छूट दी और 10 प्रतिशत की हानि व्यय की। अंकित मूल्य पर उसे कितनी छूट देनी चाहिए, जिससे उसे वस्तु पर 440 रुपए का लाभ हो?

- Ans 1. 10.5 प्रतिशत
 2. 8.5 प्रतिशत
 3. 11.5 प्रतिशत
 4. 9.5 प्रतिशत

Question ID : 264330116742

Status : Answered

Chosen Option : 1

Q.4 एक व्यक्ति की आय ₹95,000 है और उसका व्यय ₹75,000 है। यदि उसकी आय में 18% और व्यय में 12% की वृद्धि होती है, तो उसकी बचत में कितने प्रतिशत की वृद्धि होगी?

- Ans 1. 40.4%
 2. 40.6%
 3. 40.5%
 4. 40.8%

Question ID : 26433080161

Status : Answered

Chosen Option : 3

Q.5 दिव्या ने एक कार ₹ 3,50,000 में खरीदी और ₹ 4,35,000 में बेची। उसका लाभ प्रतिशत कितना है (एक दशमलव स्थान तक सही)?

- Ans 1. 21.5%
 2. 23.3%
 3. 24.3%
 4. 20.7%

Question ID : 26433075543

Status : Answered

Chosen Option : 3

Q.6 एक लम्ब वृतीय बेलन का व्यास 14 cm और ऊँचाई 2 cm है। इसके वक्र पृष्ठीय क्षेत्रफल और संपूर्ण पृष्ठीय क्षेत्रफल का योग ज्ञात कीजिए। ($\pi = \frac{22}{7}$ का उपयोग कीजिए)

- Ans 1. 484 cm²
 2. 308 cm²
 3. 176 cm²
 4. 968 cm²

Question ID : 26433087416

Status : Answered

Chosen Option : 1

Q.7 एक शहर में भालुओं की जनसंख्या प्रति वर्ष 3% की दर से बढ़ रही है। यदि शहर में भालुओं की वर्तमान जनसंख्या 21,218 है, तो दो वर्ष पूर्व भालुओं की जनसंख्या कितनी थी?

- Ans
- 1. 18500
 - 2. 19000
 - 3. 20000
 - 4. 18000

Question ID : 26433075412

Status : Answered

Chosen Option : 2

Q.8 X ने कुल 180 रुपये में 40 पेंसिल खरीदी और 180 रुपये में 2 दर्जन पेन खरीदे। एक पेन और एक पेंसिल के मूल्य के बीच का अंतर ज्ञात करें।

- Ans
- 1. 2.5 रुपए
 - 2. 3.5 रुपए
 - 3. 3 रुपए
 - 4. 2 रुपए

Question ID : 264330116689

Status : Answered

Chosen Option : 3

Q.9 A अपने वेतन का 45% भोजन पर खर्च करता है और अपने वेतन का 5% वृद्धाश्रम में दान कर देता है। वह भोजन तथा वृद्धाश्रम पर कुल Rs.28,500 खर्च करता है, तो A की आय क्या होगी?

- Ans
- 1. Rs. 52,000
 - 2. Rs. 57,000
 - 3. Rs. 55,000
 - 4. Rs. 50,000

Question ID : 26433081016

Status : Answered

Chosen Option : 2

Q.10 A एक पेंटिंग को 12 दिनों में पेंट कर सकता है। B उसी को 8 दिनों में पेंट कर सकता है। C उसी को 10 दिनों में पेंट कर सकता है। दिनों की संख्या (लगभग) ज्ञात करें जिनमें A द्वारा पेंटिंग पेंट की जा सकती है, यदि B और C दोनों साथ मिलकर एक दिन छोड़कर एक दिन उसका साथ दे, पहले दिन A अकेला पेंट करना आरंभ करता है।

- Ans
- 1. 5.4 दिन
 - 2. 8.5 दिन
 - 3. 4.4 दिन
 - 4. 7.2 दिन

Question ID : 264330116857

Status : Answered

Chosen Option : 1

Q.11 5 महिलाएं एक काम को 8 दिनों में पूरा कर सकती हैं, जबकि 8 बच्चे उसी काम को 10 दिन में पूरा कर सकते हैं। 2 महिलाएं और 4 बच्चे काम को कितने दिन में पूरा करेंगे?

- Ans
- 1. 12
 - 2. 8
 - 3. 10
 - 4. 40

Question ID : 26433076384
Status : Answered
Chosen Option : 3

Q.12 $\sqrt{6}$, $\sqrt{8}$ और $\sqrt{21}$ का चतुर्थानुपाती क्या है?

- Ans
- 1. $2\sqrt{7}$
 - 2. $8\sqrt{7}$
 - 3. $5\sqrt{7}$
 - 4. $3\sqrt{7}$

Question ID : 26433079869
Status : Answered
Chosen Option : 1

Q.13 एक कार 5 घंटे में 240 किमी की दूरी तय करती है। यदि वह अपनी सामान्य गति से आधी गति से यात्रा करती है, तो उसी दूरी को तय करने में कितना अधिक समय लगेगा?

- Ans
- 1. 4 घंटे
 - 2. 5 घंटे
 - 3. 3 घंटे
 - 4. 10 घंटे

Question ID : 26433076306
Status : Answered
Chosen Option : 2

Q.14 एक दुकानदार अपनों वस्तुओं पर 40% की छूट देता है और उसके बाद भी 20% का लाभ अर्जित करता है। ₹ 2,400 अंकित मूल्य वाली एक वस्तु के लिए दुकानदार कितना क्रय मूल्य भुगतान करता है?

- Ans
- 1. ₹1,132
 - 2. ₹1,728
 - 3. ₹1,200
 - 4. ₹1,440

Question ID : 26433062686
Status : Answered
Chosen Option : 3

Q.15 एक व्यक्ति स्कूटर द्वारा 64 km/h की चाल से एक निश्चित दूरी तय करता है और वह साइकिल चलाकर 16 km/h की चाल से प्रारंभिक स्थान पर लौट आता है। पूरी यात्रा के लिए औसत चाल ज्ञात कीजिए।

- Ans 1. 25.6 km/h
 2. 40 km/h
 3. 51.2 km/h
 4. 26.5 km/h

Question ID : 26433076200

Status : Answered

Chosen Option : 2

Q.16 5 घंटियाँ सुबह 9 बजे एक साथ बजती हैं। ये 12 सेकंड, 18 सेकंड, 24 सेकंड, 36 सेकंड और 45 सेकंड के अंतराल पर बजती हैं। घंटियाँ पुनः किस समय पर एक साथ बजती हैं?

- Ans 1. 9:08 AM
 2. 9:10 AM
 3. 9:06 AM
 4. 9:05 AM

Question ID : 264330116633

Status : Answered

Chosen Option : 3

Q.17 ₹80,000 की राशि 10% वार्षिक ब्याज दर पर, ब्याज के वार्षिक रूप से चक्रवृद्धि होने पर, कितने समय में (वर्षों में) ₹1,17,128 हो जाएगी?

- Ans 1. 3.5 वर्ष
 2. 4 वर्ष
 3. 2.5 वर्ष
 4. 2 वर्ष

Question ID : 26433076229

Status : Answered

Chosen Option : 2

Q.18 9 cm त्रिज्या और 15 cm ऊँचाई वाले एक शंकु को पिघलाकर 45 cm ऊँचाई का एक बेलन बनाया जाता है। बेलन का व्यास है:

- Ans 1. 5 cm
 2. 6 cm
 3. 10 cm
 4. 3 cm

Question ID : 26433075332

Status : Answered

Chosen Option : 2

Q.19 मोहन एक टेबल को Rs.2,832 पर बेच रहा है। यदि उसका लाभ 18% है, तो टेबल का क्रय मूल्य क्या होगा?

- Ans
- 1. Rs.2,480
 - 2. Rs.2,500
 - 3. Rs.2,400
 - 4. Rs.2,440

Question ID : 26433075652
Status : Answered
Chosen Option : 3

Q.20 40 और 50 के बीच कितनी अभाज्य संख्याएँ हैं?

- Ans
- 1. 3
 - 2. 2
 - 3. 5
 - 4. 4

Question ID : 26433080282
Status : Answered
Chosen Option : 1

Section : Part-D-English

Q.1 Select the most appropriate option to substitute the underlined segment in the given sentence.

Purchasing furniture at a low cost could not involve abandoning design or quality.

- Ans
- 1. did not provoke compromising
 - 2. have not done regretting
 - 3. cannot force forgetting
 - 4. should not entail sacrificing

Question ID : 26433092914
Status : Answered
Chosen Option : 1

Q.2 Select the most appropriate option to fill in the blank.

Truthfully speaking, the victories of peace and harmony have a more _____ impact on human civilisation than the so-called victories of war.

- Ans
- 1. Lasting
 - 2. Greater
 - 3. Transient
 - 4. Superior

Question ID : 26433074420
Status : Answered
Chosen Option : 3

Q.3 Select the most appropriate ANTONYM of the given word.

Timid

- Ans 1. Bold
 2. Fearful
 3. Shy
 4. Diffident

Question ID : 26433073571
Status : Answered
Chosen Option : 1

Q.4 Select the option that expresses the given sentence in future tense form.

There are multiple facilities available for reaching the island.

- Ans 1. There had been multiple facilities available for reaching the island.
 2. There will be multiple facilities available for reaching the island.
 3. There have been multiple facilities available for reaching the island.
 4. There were multiple facilities available for reaching the island.

Question ID : 26433089292
Status : Answered
Chosen Option : 2

Q.5 Identify the correctly spelt sentence.

- Ans 1. The events arranged or organised in order of time are known as chronoloigal order.
 2. The events arranged or organised in order of time are known as chronologikal order.
 3. The events arranged or organised in order of time are known as chronological order.
 4. The events arranged or organised in order of time are known as chronoligal order.

Question ID : 26433072826
Status : Answered
Chosen Option : 3

Q.6 Select the most appropriate synonym of the given word.

Blast

- Ans 1. Recall
 2. Share
 3. Blow up
 4. Plead

Question ID : 26433089107
Status : Answered
Chosen Option : 3

Q.7 Select the correct word for the blanks in the given sentence.

Sivakashi is famous for its _____ box industry, and I am unable to find a _____ for my purple dress.

- Ans
- 1. bread
 - 2. chatter
 - 3. sweat
 - 4. match

Question ID : 26433060538
Status : Answered
Chosen Option : 4

Q.8 Select the INCORRECTLY spelt word.

- Ans
- 1. Stakeholder
 - 2. Permenent
 - 3. Longitude
 - 4. Maladjusted

Question ID : 26433073513
Status : Answered
Chosen Option : 2

Q.9 Select the most appropriate meaning of the given idiom.

At your beck and call

- Ans
- 1. To have no control over someone
 - 2. To call someone and then deny
 - 3. To have absolute control over someone
 - 4. To call someone respectfully

Question ID : 26433072224
Status : Answered
Chosen Option : 3

Q.10 Select the most appropriate homophone to fill in the blank.

In many road accidents people break their bones mainly because their vehicle _____ fails.

- Ans
- 1. bleak
 - 2. broke
 - 3. brake
 - 4. brow

Question ID : 26433088794
Status : Answered
Chosen Option : 3

Q.11 Select the most appropriate ANTONYM of the given word.

Liability

- Ans
- 1. Resource
 - 2. Strike
 - 3. Asset
 - 4. Responsibility

Question ID : 26433072269
Status : Answered
Chosen Option : 2

Q.12 Select the most appropriate meaning of the given idiom.

A night owl

- Ans
- 1. Someone who works very hard
 - 2. Someone who never works
 - 3. Someone who has good eyesight
 - 4. A person who prefers to be awake late at night

Question ID : 26433072675
Status : Answered
Chosen Option : 4

Q.13 Select the most appropriate option that can substitute the underlined segment in the given sentence.

I regarded my brother on passing his graduation examination.

- Ans
- 1. kowtowed
 - 2. congratulated
 - 3. flattered
 - 4. disparaged

Question ID : 26433088163
Status : Answered
Chosen Option : 2

Q.14 Select the most appropriate synonym of the given word.

Colloquial

- Ans
- 1. Lexical
 - 2. Prosodic
 - 3. Conversational
 - 4. Linguistic

Question ID : 26433073635
Status : Answered
Chosen Option : 4

Q.15 Select the most appropriate ANTONYM of the given word.

Rancid

- Ans 1. Fresh
 2. Rotten
 3. Rough
 4. Urgent

Question ID : 26433071977

Status : Answered

Chosen Option : 1

Comprehension:

In the following passage, some words have been deleted. Read the passage carefully and select the most appropriate option to fill in each blank.

The companies in the present era (1) _____ priority, during recruitment, to the candidates who have Emotional Intelligence. EI is the ability to understand, analyse and control emotions. Possessing very high EI creates a (2) _____ impact on a person's life. People who have EI always maintain emotional stability even in difficult situations. They can be nice even in socially awkward situations. As they are very good at controlling emotions, they make others feel (3) _____. It is proven that it will make leaders more effective as they understand the feelings of teammates. It allows one (4) _____ impactfully with others. Stress and conflict can be handled so easily. As it allows great empathy towards others, they can be very good at interpersonal relationship. These people strengthen the relationship (5) _____ the people with their interaction and coordination both in personal and professional life. Companies are well aware of the benefits with the employees who have EI.

SubQuestion No : 16

Q.16 Select the most appropriate option to fill in blank number 1.

- Ans 1. has been giving
 2. is giving
 3. are giving
 4. have been given

Question ID : 26433072166

Status : Answered

Chosen Option : 3

Comprehension:

In the following passage, some words have been deleted. Read the passage carefully and select the most appropriate option to fill in each blank.

The companies in the present era (1) _____ priority, during recruitment, to the candidates who have Emotional Intelligence. EI is the ability to understand, analyse and control emotions. Possessing very high EI creates a (2) _____ impact on a person's life. People who have EI always maintain emotional stability even in difficult situations. They can be nice even in socially awkward situations. As they are very good at controlling emotions, they make others feel (3) _____. It is proven that it will make leaders more effective as they understand the feelings of teammates. It allows one (4) _____ impactfully with others. Stress and conflict can be handled so easily. As it allows great empathy towards others, they can be very good at interpersonal relationship. These people strengthen the relationship (5) _____ the people with their interaction and coordination both in personal and professional life. Companies are well aware of the benefits with the employees who have EI.

SubQuestion No : 17

Q.17 Select the most appropriate option to fill in blank number 2.

- Ans 1. creative
 2. positive
 3. memorable
 4. colonial

Question ID : 26433072167

Status : Answered

Chosen Option : 2

Comprehension:

In the following passage, some words have been deleted. Read the passage carefully and select the most appropriate option to fill in each blank.

The companies in the present era (1) _____ priority, during recruitment, to the candidates who have Emotional Intelligence. EI is the ability to understand, analyse and control emotions. Possessing very high EI creates a (2) _____ impact on a person's life. People who have EI always maintain emotional stability even in difficult situations. They can be nice even in socially awkward situations. As they are very good at controlling emotions, they make others feel (3) _____. It is proven that it will make leaders more effective as they understand the feelings of teammates. It allows one (4) _____ impactfully with others. Stress and conflict can be handled so easily. As it allows great empathy towards others, they can be very good at interpersonal relationship. These people strengthen the relationship (5) _____ the people with their interaction and coordination both in personal and professional life. Companies are well aware of the benefits with the employees who have EI.

SubQuestion No : 18

Q.18 Select the most appropriate option to fill in blank number 3.

- Ans 1. manageable
 2. favourable
 3. tolerable
 4. comfortable

Question ID : 26433072168

Status : Answered

Chosen Option : 4

Comprehension:

In the following passage, some words have been deleted. Read the passage carefully and select the most appropriate option to fill in each blank.

The companies in the present era (1) _____ priority, during recruitment, to the candidates who have Emotional Intelligence. EI is the ability to understand, analyse and control emotions. Possessing very high EI creates a (2) _____ impact on a person's life. People who have EI always maintain emotional stability even in difficult situations. They can be nice even in socially awkward situations. As they are very good at controlling emotions, they make others feel (3) _____. It is proven that it will make leaders more effective as they understand the feelings of teammates. It allows one (4) _____ impactfully with others. Stress and conflict can be handled so easily. As it allows great empathy towards others, they can be very good at interpersonal relationship. These people strengthen the relationship (5) _____ the people with their interaction and coordination both in personal and professional life. Companies are well aware of the benefits with the employees who have EI.

SubQuestion No : 19

Q.19 Select the most appropriate option to fill in blank number 4.

Ans 1. to communicate

2. to be communicated

3. communicate

4. to communicating

Question ID : 26433072169

Status : Answered

Chosen Option : 1

Comprehension:

In the following passage, some words have been deleted. Read the passage carefully and select the most appropriate option to fill in each blank.

The companies in the present era (1) _____ priority, during recruitment, to the candidates who have Emotional Intelligence. EI is the ability to understand, analyse and control emotions. Possessing very high EI creates a (2) _____ impact on a person's life. People who have EI always maintain emotional stability even in difficult situations. They can be nice even in socially awkward situations. As they are very good at controlling emotions, they make others feel (3) _____. It is proven that it will make leaders more effective as they understand the feelings of teammates. It allows one (4) _____ impactfully with others. Stress and conflict can be handled so easily. As it allows great empathy towards others, they can be very good at interpersonal relationship. These people strengthen the relationship (5) _____ the people with their interaction and coordination both in personal and professional life. Companies are well aware of the benefits with the employees who have EI.

SubQuestion No : 20

Q.20 Select the most appropriate option to fill in blank number 5.

Ans 1. along with

2. among

3. between

4. in reference with

Question ID : 26433072170

Status : Answered

Chosen Option : 2

Q.1 पेड़ बढ़ता गया।

इस वाक्य में प्रयुक्त संयुक्त क्रिया का नाम बताइए।

- Ans
- 1. नित्यताबोधक संयुक्त क्रिया
 - 2. अनुमतिबोधक संयुक्त क्रिया
 - 3. अवकाशबोधक संयुक्त क्रिया
 - 4. समाप्तिबोधक संयुक्त क्रिया

Question ID : 26433063048

Status : Not Answered

Chosen Option : --

Q.2 'टिप्पस भिड़ाना' मुहावरे का अर्थ होगा-

- Ans
- 1. अकल लगाना
 - 2. नयी योजना बनाना
 - 3. लोगों को आपस में लड़वाना
 - 4. सिफारिश करवाना

Question ID : 26433069947

Status : Not Answered

Chosen Option : --

Q.3 इस वाक्य के रिक्त स्थान पर रेखांकित शब्द का उपयुक्त विलोम शब्द कौन-सा होगा?

भारत मे कहीं अतिवृष्टि से बाढ़ आती है तो कहीं _____ से सूखा पड़ता है।

- Ans
- 1. सुवरिष्टि
 - 2. अनावृष्टि
 - 3. वृष्टि
 - 4. लघुवृष्टि

Question ID : 26433066909

Status : Not Answered

Chosen Option : --

Q.4 निम्न में से किस वाक्य में 'उत्कंठा' के सही पर्यायवाची शब्द का प्रयोग हुआ है?

- Ans
- 1. रघु में उत्साह की कमी है।
 - 2. नव्या में अब कोई लालसा शेष नहीं थी।
 - 3. लता ने अपनी उदारता का परिचय दिया।
 - 4. नेहा श्रेष्ठ गायिका है।

Question ID : 26433067015

Status : Not Answered

Chosen Option : --

Q.5 लकड़ियों का समूह।
रेखांकित पद 'समूह' के बदले उपयुक्त शब्द का प्रयोग कीजिए।

- Ans
- 1. गट्टर
 - 2. रेवड़
 - 3. टुकड़ा
 - 4. ढेर

Question ID : 26433062691
Status : Not Answered
Chosen Option : --

Q.6 निम्नलिखित वाक्य के किस खंड में त्रुटि है?
जीवन और साहित्य का घोर संबंध है।

- Ans
- 1. जीवन
 - 2. संबंध
 - 3. साहित्य
 - 4. घोर

Question ID : 26433066756
Status : Not Answered
Chosen Option : --

Q.7 दिए गए शब्दों में से उचित शब्द से वाक्य पूर्ण करें --
वैद्य जी _____ देखकर इलाज करते हैं।

- Ans
- 1. नारी
 - 2. नाड़ी
 - 3. नीर
 - 4. नीड़

Question ID : 26433062909
Status : Not Answered
Chosen Option : --

Q.8 'सरस्वती' के पर्यायवाची शब्द से वाक्य की पूर्ति कीजिए।

प्रातःकाल _____ का स्तोत्र पढ़िए।

- Ans
- 1. शारदा
 - 2. उमा
 - 3. कान्ता
 - 4. धात्री

Question ID : 26433079242
Status : Not Answered
Chosen Option : --

Q.9 'वह व्यक्ति जो विद्यार्थियों को पढ़ाने का कार्य करता है' वाक्यांश के लिए सार्थक शब्द है-

- Ans
- 1. विद्यार्थी
 - 2. शिक्षक
 - 3. शिक्षार्थी
 - 4. छात्र

Question ID : 26433062230

Status : Not Answered

Chosen Option : --

Q.10 निम्नलिखित वाक्यांश के लिए उपयुक्त सार्थक शब्द है:
जो कहा न जा सके

- Ans
- 1. अकथ्य
 - 2. कथन
 - 3. कहानी
 - 4. कहना

Question ID : 26433065756

Status : Not Answered

Chosen Option : --

Q.11 वाक्य में रेखांकित अंश के लिए उचित मुहावरा दिए गए विकल्पों में से चुनिए-
तुम किस काम के हो!

- Ans
- 1. कोल्हू का बैल
 - 2. कूप मंडूक
 - 3. किस मर्ज की दवा
 - 4. कोढ़ में खाज

Question ID : 26433062304

Status : Not Answered

Chosen Option : --

Q.12 'शरीर का कोई भाग' वाक्यांश के लिए उचित शब्द बताइए -

- Ans
- 1. अवयव
 - 2. कृशांग
 - 3. दृष्टि
 - 4. अभिन्न

Question ID : 26433065908

Status : Not Answered

Chosen Option : --

Q.13 निम्नलिखित वाक्य के किस खंड में अशुद्धि है?
गौतम बुद्ध ने पाली भाषा में उपदेश दिया

- Ans
- 1. उपदेश
 - 2. दिया
 - 3. पाली
 - 4. भाषा

Question ID : 26433066753

Status : Not Answered

Chosen Option : --

Q.14 'करण खाने बीच मिठाई लाया'
उपरोक्त वाक्य में कारक सम्बन्धी त्रुटि पहचानकर निम्नलिखित में से शुद्ध वाक्य चुनिए।

- Ans
- 1. करण खाने साथ मिठाई लाया।
 - 2. करण खाने की मिठाई लाया।
 - 3. करण खाने बाद मिठाई लाया।
 - 4. करण खाने के लिए मिठाई लाया।

Question ID : 26433066967

Status : Not Answered

Chosen Option : --

Q.15 'सुनैना खाना खा रही है'
उपरोक्त वाक्य का भाववाच्य में रूपांतरण होगा-

- Ans
- 1. सुनैना खाना खा रही थी।
 - 2. सुनैना खाना नहीं खा रही है।
 - 3. सुनैना खाना खा रही होगी।
 - 4. सुनैना से खाना नहीं खाया जाता।

Question ID : 26433066980

Status : Not Answered

Chosen Option : --

Comprehension:

निम्नलिखित गद्यांश में कुछ शब्दों को हटा दिया गया है। दिए गए विकल्पों की सहायता से रिक्त स्थानों की पूर्ति कीजिए। प्रत्येक संख्या के लिए सबसे उपयुक्त विकल्प का चयन करें।

मैत्री भाव सकारात्मक तथा 1. _____ वर्ग में गिना जाता है। मित्रता ऐसा उपहार है जो 2. _____ को प्राप्त होता है। सच्चा मित्र वही होता है जिसके कारण हमें कभी भी 3. _____ ना हो। जब भी हमारी ऐसी कोई आदत होती है जिससे दूसरे को परेशानी होती है तो ऐसी आदत 4. _____ में ही भलाई है। मनुष्य तो 5. _____ प्राणी है।

SubQuestion No : 16

Q.16 रिक्त स्थान 1 की पूर्ति के लिए सबसे उपयुक्त विकल्प का चयन कीजिए।

- Ans
- 1. नकारात्मक
 - 2. निम्न
 - 3. उच्च
 - 4. मध्यम

Question ID : 264330110993

Status : Not Answered

Chosen Option : --

Comprehension:

निम्नलिखित गद्यांश में कुछ शब्दों को हटा दिया गया है। दिए गए विकल्पों की सहायता से रिक्त स्थानों की पूर्ति कीजिए। प्रत्येक संख्या के लिए सबसे उपयुक्त विकल्प का चयन करें।

मैत्री भाव सकारात्मक तथा 1. _____ वर्ग में गिना जाता है। मित्रता ऐसा उपहार है जो 2. _____ को प्राप्त होता है। सच्चा मित्र वही होता है जिसके कारण हमें कभी भी 3. _____ ना हो। जब भी हमारी ऐसी कोई आदत होती है जिससे दूसरे को परेशानी होती है तो ऐसी आदत 4. _____ में ही भलाई है। मनुष्य तो 5. _____ प्राणी है।

SubQuestion No : 17

Q.17 रिक्त स्थान 2 की पूर्ति के लिए सबसे उपयुक्त विकल्प का चयन कीजिए।

- Ans
- 1. गरीब
 - 2. सबको
 - 3. अमीर
 - 4. भाग्यशाली

Question ID : 264330110994

Status : Not Answered

Chosen Option : --

Comprehension:

निम्नलिखित गद्यांश में कुछ शब्दों को हटा दिया गया है। दिए गए विकल्पों की सहायता से रिक्त स्थानों की पूर्ति कीजिए। प्रत्येक संख्या के लिए सबसे उपयुक्त विकल्प का चयन करें।

मैत्री भाव सकारात्मक तथा 1. _____ वर्ग में गिना जाता है। मित्रता ऐसा उपहार है जो 2. _____ को प्राप्त होता है। सच्चा मित्र वही होता है जिसके कारण हमें कभी भी 3. _____ ना हो। जब भी हमारी ऐसी कोई आदत होती है जिससे दूसरे को परेशानी होती है तो ऐसी आदत 4. _____ में ही भलाई है। मनुष्य तो 5. _____ प्राणी है।

SubQuestion No : 18

Q.18 रिक्त स्थान 3 की पूर्ति के लिए सबसे उपयुक्त विकल्प का चयन कीजिए।

- Ans
- 1. खुशी
 - 2. उत्साह
 - 3. भलाई
 - 4. पश्चाताप

Question ID : 264330110995

Status : Not Answered

Chosen Option : --

Comprehension:

निम्नलिखित गद्यांश में कुछ शब्दों को हटा दिया गया है। दिए गए विकल्पों की सहायता से रिक्त स्थानों की पूर्ति कीजिए। प्रत्येक संख्या के लिए सबसे उपयुक्त विकल्प का चयन करें।

मैत्री भाव सकारात्मक तथा 1. _____ वर्ग में गिना जाता है। मित्रता ऐसा उपहार है जो 2. _____ को प्राप्त होता है। सच्चा मित्र वही होता है जिसके कारण हमें कभी भी 3. _____ ना हो। जब भी हमारी ऐसी कोई आदत होती है जिससे दूसरे को परेशानी होती है तो ऐसी आदत 4. _____ में ही भलाई है। मनुष्य तो 5. _____ प्राणी है।

SubQuestion No : 19

Q.19 रिक्त स्थान 4 की पूर्ति के लिए सबसे उपयुक्त विकल्प का चयन कीजिए।

- Ans
- 1. दिखाने
 - 2. गिनाने
 - 3. छोड़ने
 - 4. अपनाने

Question ID : 264330110996

Status : Not Answered

Chosen Option : --

Comprehension:

निम्नलिखित गद्यांश में कुछ शब्दों को हटा दिया गया है। दिए गए विकल्पों की सहायता से रिक्त स्थानों की पूर्ति कीजिए। प्रत्येक संख्या के लिए सबसे उपयुक्त विकल्प का चयन करें।

मैत्री भाव सकारात्मक तथा 1. _____ वर्ग में गिना जाता है। मित्रता ऐसा उपहार है जो 2. _____ को प्राप्त होता है। सच्चा मित्र वही होता है जिसके कारण हमें कभी भी 3. _____ ना हो। जब भी हमारी ऐसी कोई आदत होती है जिससे दूसरे को परेशानी होती है तो ऐसी आदत 4. _____ में ही भलाई है। मनुष्य तो 5. _____ प्राणी है।

SubQuestion No : 20

Q.20 रिक्त स्थान 5 की पूर्ति के लिए सबसे उपयुक्त विकल्प का चयन कीजिए।

- Ans
- 1. भयानक
 - 2. परेशान
 - 3. सामाजिक
 - 4. दिखावा

Question ID : 264330110997

Status : Not Answered

Chosen Option : --

KD Job Updates

Constable GD in CAPFs SSF Rifleman GD in Assam Rifles and Sepoy in NCB Examination 2022

Roll Number	KD Job Updates
Candidate Name	KD Job Updates
Venue Name	iON Digital Zone iDZ 2 Patliputra
Exam Date	10/01/2023
Exam Time	11:45 AM - 12:45 PM
Subject	Constable GD Examination 2022

Section : Part-A-General Intelligence and Reasoning

Q.1 छः लड़कियां - D, K, M, P, R और S एक वृत्ताकार मेज के परितः मेज के केंद्र की ओर मुख करके बैठी हैं। S, R के बाईं ओर तीसरे स्थान पर बैठी है। P, R के दाईं ओर ठीक बगल में, और D के बाईं ओर ठीक बगल में बैठी है। M, R के बाईं ओर ठीक बगल में बैठी है। K, S के दाईं ओर ठीक बगल में, और M के बाईं ओर ठीक बगल में बैठी है। K और D के ठीक बगल में कौन बैठी है?

- Ans
- 1. S
 - 2. M
 - 3. P
 - 4. R

Question ID : 26433080472

Status : Answered

Chosen Option : 1

Q.2 उस विकल्प का चयन करें जो पांचवें अक्षर-समूह से उसी प्रकार संबंधित है जिस प्रकार दूसरा अक्षर-समूह पहले अक्षर-समूह से संबंधित है और चौथा अक्षर-समूह तीसरे अक्षर-समूह से संबंधित है।
UCE : FEX :: PGS : TIS :: HKR : ?

- Ans
- 1. SNK
 - 2. SMK
 - 3. SMJ
 - 4. RKH

Question ID : 26433057745

Status : Answered

Chosen Option : 2

Q.3 उस विकल्प का चयन कीजिए जो तीसरे शब्द से उसी प्रकार संबंधित है जिस प्रकार दूसरा शब्द पहले शब्द से संबंधित है। (शब्दों को अर्थपूर्ण शब्दों के रूप में मानना है और उन्हें शब्द में अक्षरों/व्यंजनों/स्वरों की संख्या के आधार पर एक-दूसरे से संबंधित नहीं करना है।)
पीडियाट्रिशियन : बच्चे :: डर्मेटोलॉजिस्ट : ?

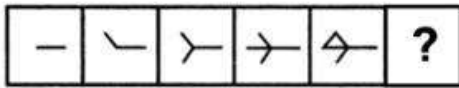
- Ans
- 1. अस्थियां
 - 2. पौधे
 - 3. पैर
 - 4. त्वचा

Question ID : 26433078823

Status : Answered

Chosen Option : 4

Q.4 दिए गए विकल्पों में से उस आकृति का चयन करें जो निम्नलिखित श्रृंखला में प्रश्नवाचक चिह्न (?) का स्थान ले सकती है।

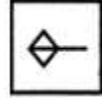


Ans

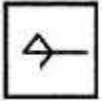
✗ 1.



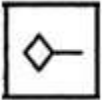
✓ 2.



✗ 3.



✗ 4.



Question ID : 26433080494

Status : Answered

Chosen Option : 2

Q.5 दिए गए समीकरण को संतुलित करने के लिए इसकी किन दो संख्याओं (अंको को नहीं) को परस्पर बदलना होगा?

$$8 \times 15 \div 3 + 14 - 4 = 26$$

Ans ✗ 1. 14, 15

✓ 2. 4, 8

✗ 3. 3, 4

✗ 4. 15, 26

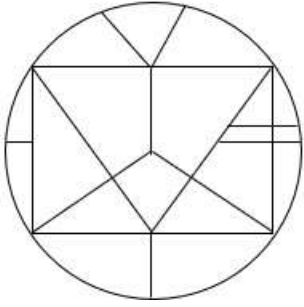
Question ID : 26433087045

Status : Answered

Chosen Option : 2

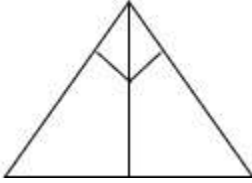
Q.6 वह विकल्प चित्र चुनिए, जो प्रस्तुत चित्र में अंतर्निहित है। (घुमाना अनुमन्य नहीं है)

है)

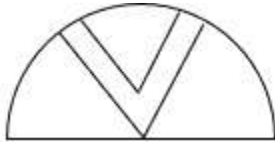


Ans

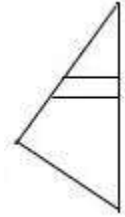
✗ 1.



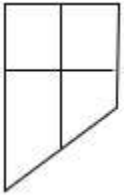
✗ 2.



✓ 3.



✗ 4.



KD Job Updates

Question ID : 26433069349

Status : Answered

Chosen Option : 3

Q.7 आठ व्यक्ति दो समानांतर पंक्तियों में, प्रत्येक में 4 व्यक्ति के अनुसार, इस प्रकार बैठे हैं कि आसन्न व्यक्तियों के बीच की दूरी समान है तथा ये व्यक्ति एक दूसरे की ओर देख रहे हैं।
पंक्ति I में - L, M, N और O बैठे हैं, और उन सभी का मुख दक्षिण की ओर है।
पंक्ति II में - P, Q, R और S बैठे हैं, और उन सभी का मुख उत्तर की ओर है।
N अपनी पंक्ति के अंतिम दाएं सिरे पर बैठे व्यक्ति के बगल में बैठा है, और उसका मुख R की ओर है। S अपनी पंक्ति के अंतिम बाएं सिरे पर बैठा है। Q, R के दाईं ओर ठीक बगल में बैठा है, और उसका मुख L की ओर है। O अपनी पंक्ति के अंतिम बाएं सिरे पर बैठा है।
दक्षिण दिशा की ओर मुख करके बैठे व्यक्तियों की पंक्ति के अंतिम दाएं सिरे पर कौन बैठा है?

Ans ✗ 1. L

✗ 2. O

✗ 3. N

✓ 4. M

Question ID : 26433068745

Status : Answered

Chosen Option : 4

Q.8 नीचे दिए गए समीकरण को गणितीय रूप से सही बनाने के लिए किन दो चिन्हों को परस्पर बदलना चाहिए?

$$42 + 12 \div 24 \times 84 - 14 = 91$$

- Ans
- 1. \times और \div
 - 2. $+$ और \times
 - 3. $-$ और $+$
 - 4. \div और $-$

Question ID : 264330117505

Status : Answered

Chosen Option : 2

Q.9 एक निश्चित कूट भाषा में 'MONTH' को '141213719' के रूप में और 'YEAR' को '222269' के रूप में लिखा जाता है। उसी भाषा में 'WEEK' को किस प्रकार लिखा जाएगा?

- Ans
- 1. 4222261
 - 2. 1444424
 - 3. 4222216
 - 4. 2444416

Question ID : 26433068228

Status : Answered

Chosen Option : 3

Q.10 किस विकल्प में निम्नलिखित शब्दों का वह क्रम दिया गया है, जिस क्रम में वे अंग्रेजी शब्दकोश में आते हैं?

- 1 lonely
- 2 longitude
- 3 lovely
- 4 lounge
- 5 locker

- Ans
- 1. 5,1,2,4,3
 - 2. 5,1,2,3,4
 - 3. 5,2,1,3,4
 - 4. 5,4,3,1,2

Question ID : 26433069317

Status : Answered

Chosen Option : 1

Q.11 निम्नलिखित में से कौन-सा पद दी गई श्रृंखला में प्रश्न-चिह्न (?) के स्थान पर आएगा?
DBA, JHG, PNM, ?

- Ans
- 1. VTQ
 - 2. VTS
 - 3. KMV
 - 4. VTU

Question ID : 26433068631

Status : Answered

Chosen Option : 2

Q.12 निम्नलिखित में से कौन-सी संख्या दी गई श्रृंखला में प्रश्न-चिह्न (?) के स्थान पर आएगी?
7, 50, 351, 2458, ?

Ans 1. 17207

2. 18000

3. 15265

4. 13582

Question ID : 26433082002

Status : Answered

Chosen Option : 1

Q.13 एक निश्चित कूट भाषा में, 'BUYER' को 'CSZCS' के रूप में लिखा जाता है और 'CHILD' को 'DFJJE' के रूप में लिखा जाता है। उसी भाषा में 'DEATH' को कैसे लिखा जाएगा?

Ans 1. ECBRI

2. EBCUJ

3. FFBUI

4. GFCRJ

Question ID : 26433082558

Status : Answered

Chosen Option : 1

Q.14 दर्पण को चित्र में दिखाए अनुसार MN पर रखे जाने पर दी गई आकृति के सही

दर्पण प्रतिबिंब का चयन करें।

9 4 n o m 7 d b 6 | M
N

Ans 1. a b d 7 m o n 4 e

2. a d b 7 m o n 4 e

3. a d b 7 n o m 4 e

4. e d b 7 m o n 4 a

Question ID : 26433082331

Status : Answered

Chosen Option : 2

Q.15 कौन-सा अक्षर-समूह दी गई श्रृंखला में प्रश्नचिह्न (?) के स्थान पर आकर श्रृंखला को पूर्ण करेगा?
UERB, RHOE, ?, LNIK, IQFN

Ans 1. OKLH

2. OKMH

3. OLMl

4. OKNI

Question ID : 26433068574

Status : Answered

Chosen Option : 1

Q.16 तीन कथनों के बाद तीन निष्कर्ष I, II और III दिए गए हैं। कथनों को सत्य मानते हुए, भले ही वे सामान्य रूप से ज्ञात तथ्यों से भिन्न प्रतीत होते हों, निर्णय लीजिए कि कौन-सा/से निष्कर्ष कथनों का तार्किक रूप से अनुसरण करता/करते है/हैं।

कथन:

कुछ पत्तागोभी चट्टानें हैं।

सभी चट्टानें पहिए हैं।

कोई पहिया कैची नहीं है।

निष्कर्ष:

I. सभी पत्तागोभी पहिए हैं।

II. कुछ चट्टाने पहिए हैं।

III. कुछ पहिए कैची नहीं हैं।

Ans 1. निष्कर्ष II और III दोनों अनुसरण करते हैं।

2. सभी निष्कर्ष अनुसरण करते हैं।

3. निष्कर्ष I और III दोनों अनुसरण करते हैं।

4. निष्कर्ष I और II दोनों अनुसरण करते हैं।

Question ID : 26433081792

Status : Answered

Chosen Option : 4

Q.17 निम्नलिखित में से कौन-सी संख्या दी गई श्रृंखला में प्रश्न-चिह्न (?) का स्थान लेगी?
7, 17, ?, 137, 407, 1217

Ans 1. 57

2. 47

3. 34

4. 51

Question ID : 26433068096

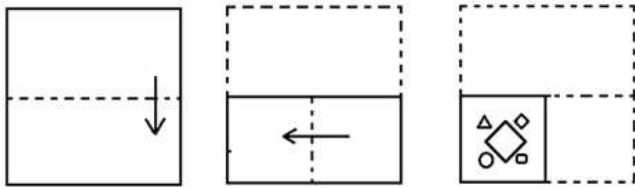
Status : Answered

Chosen Option : 2

Q.18 एक कागज को मोड़ने का क्रम और मुड़े हुए कागज को काटने का तरीका नीचे दर्शाया गया

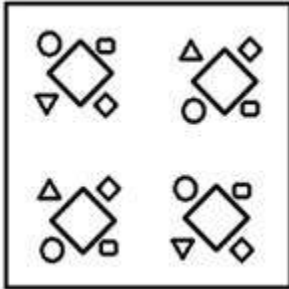
है। उस आकृति का चयन करें जो कागज को खोले जाने पर उसके खुले रूप से सबसे अधिक

मिलती-जुलती है।

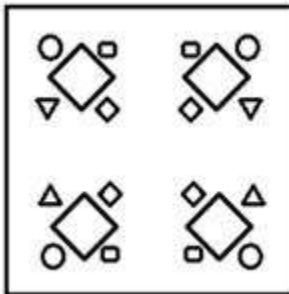


Ans

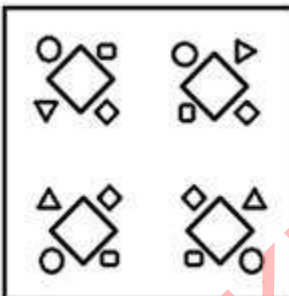
✗ 1.



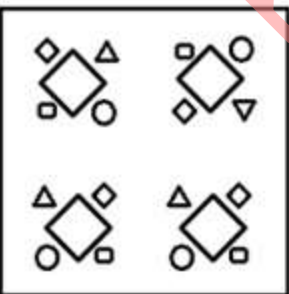
✓ 2.



✗ 3.



✗ 4.



Question ID : 26433087095

Status : Answered

Chosen Option : 2

Q.19 A @ B का अर्थ है 'A, B का पति है'।
A & B का अर्थ है 'A, B की माता है'।
A # B का अर्थ है 'A, B की बेटी है'।
A % B का अर्थ है 'A, B की बहन है'।
यदि G % V @ K & P और G # S % M है, तो S, P से किस प्रकार संबंधित है?

- Ans
- 1. ससुर
 - 2. सास
 - 3. दादी (पिता की माता)
 - 4. पौत्र (पुत्र का पुत्र)

Question ID : 26433069614

Status : Answered

Chosen Option : 3

Q.20 उस समुच्चय का चयन करें, जिसकी संख्याओं के बीच ठीक वही संबंध है, जो संबंध निम्नांकित समुच्चयों की संख्याओं में हैं।
(नोट: संख्याओं को उसके घटक अंकों में विभाजित किए बिना, पूर्ण संख्याओं पर संक्रिया की जानी चाहिए। उदाहरण के लिए 13। 13 पर संचालन जैसे कि जोड़ने/घटाने/गुणा करने आदि को 13 में किया जा सकता है। 13 को 1 और 3 में तोड़कर और फिर 1 और 3 पर गणितीय संक्रियाएँ करने की अनुमति नहीं है)
(20, 90, 10)
(25, 135, 10)

- Ans
- 1. (22, 150, 7)
 - 2. (19, 80, 15)
 - 3. (18, 72, 10)
 - 4. (30, 169, 12)

Question ID : 26433076546

Status : Answered

Chosen Option : 2

Section : Part-B-General Knowledge and General awareness

Q.1 स्किल इंडिया मिशन की अभिशासन परिषद की अध्यक्षता _____ करते हैं।

- Ans
- 1. मुख्यमंत्री
 - 2. प्रधान मंत्री
 - 3. राष्ट्रपति
 - 4. गृह मंत्री

Question ID : 264330116190

Status : Answered

Chosen Option : 2

Q.2 सदनम पी.वी. बालकृष्णन को किस नृत्य शैली के लिए संगीत नाटक अकादमी पुरस्कार दिया गया?

- Ans
- 1. लावणी
 - 2. भरतनाट्यम
 - 3. कुचिपुड़ी
 - 4. कथकली

Question ID : 264330115844

Status : Not Answered

Chosen Option : --

Q.3 मानव शरीर में, भोजन एक सतत् नली से गुजरता है, जो _____ से प्रारम्भ होकर गुदा तक जाती है।

- Ans
- 1. मुख-गुहिका
 - 2. ग्रास नली
 - 3. आमाशय
 - 4. मलाशय

Question ID : 264330115227

Status : Answered

Chosen Option : 1

Q.4 महात्मा गांधी (नई) शृंखला के 50 रु के बैंकनोट का आधार रंग _____ है।

- Ans
- 1. स्टोन ग्रे
 - 2. चॉकलेट भूरा
 - 3. फ्लोरोसेंट नीला
 - 4. लैवेंडर

Question ID : 264330115292

Status : Answered

Chosen Option : 3

Q.5 निम्न में से रेडॉक्स अभिक्रिया की पहचान कीजिए।

Ans 1. $\text{CaCO}_3(\text{ठोस}) \rightarrow \text{CaO}(\text{ठोस}) + \text{CO}_2(\text{गैस})$

2. $\text{MnO}_2 + 4\text{HCl} \rightarrow \text{MnCl}_2 + 2\text{H}_2\text{O} + \text{Cl}_2$

3. $\text{Pb}(\text{ठोस}) + \text{CuCl}_2(\text{जलीय}) \rightarrow \text{PbCl}_2(\text{जलीय}) + \text{Cu}(\text{ठोस})$

4.

$2\text{Pb}(\text{NO}_3)_2(\text{ठोस}) \rightarrow 2\text{PbO}(\text{ठोस}) + 4\text{NO}_2(\text{गैस}) + \text{O}_2(\text{गैस})$

Question ID : 26433091479

Status : Not Attempted and Marked For Review

Chosen Option : --

Q.6 तमिलनाडु तट पर अधिकतर वर्षा _____ और _____ के दौरान होती है।

- Ans
- 1. अप्रैल और मई
 - 2. अगस्त और सितंबर
 - 3. अक्टूबर और नवंबर
 - 4. मई और जून

Question ID : 26433087879

Status : Answered

Chosen Option : 3

Q.7 जनगणना 2011 के अनुसार भारत में सर्वाधिक महिला साक्षरता दर वाले राज्य का नाम बताइए।

- Ans
- 1. महाराष्ट्र
 - 2. केरल
 - 3. कर्नाटक
 - 4. मिज़ोरम

Question ID : 264330116053

Status : Answered

Chosen Option : 2

Q.8 Which of the following case is NOT a criminal law case?

- Ans
- 1. Divorce case
 - 2. Murder
 - 3. Theft
 - 4. Harassment for dowry

Question ID : 26433089183

Status : Answered

Chosen Option : 1

Q.9 The plan between fifth five year plan and sixth five year plan is known as _____.

- Ans
- 1. Equality
 - 2. Integrated
 - 3. Rolling
 - 4. Forward

Question ID : 264330116139

Status : Answered

Chosen Option : 2

Q.10 महा शिवरात्रि हिंदू देवता, भगवान शिव के सम्मान में हिंदू माह _____ में मनाई जाती है।

- Ans
- 1. कार्तिक
 - 2. चैत्र
 - 3. फाल्गुन
 - 4. वैशाख

Question ID : 264330115124
Status : Answered
Chosen Option : 4

Q.11 बैडमिंटन में प्रत्येक खेल (गेम) में कितने अंक होते हैं?

- Ans
- 1. 20
 - 2. 15
 - 3. 11
 - 4. 21

Question ID : 264330115928
Status : Not Answered
Chosen Option : --

Q.12 निम्नलिखित में से कौन ब्रिटिश भारत में भारतीय सिविल सेवा में भर्ती होने वाले पहले भारतीय थे?

- Ans
- 1. सुरेंद्र नाथ बनर्जी
 - 2. रविंद्रनाथ टैगोर
 - 3. सत्येंद्रनाथ टैगोर
 - 4. रहीमतुल्ला एम. सयानी

Question ID : 26433090582
Status : Answered
Chosen Option : 3

Q.13 भारतीय संविधान का कौन सा अनुच्छेद 'प्राण और दैहिक स्वतंत्रता का संरक्षण' से संबंधित है?

- Ans
- 1. अनुच्छेद 20
 - 2. अनुच्छेद 21
 - 3. अनुच्छेद 22
 - 4. अनुच्छेद 19

Question ID : 26433089906
Status : Answered
Chosen Option : 2

Q.14 निम्नलिखित में से कौन सा आंध्र प्रदेश का शास्त्रीय नृत्य है?

- Ans
- 1. कुचिपुड़ी
 - 2. मणिपुरी
 - 3. भरतनाट्यम
 - 4. मोहिनीअट्टम

Question ID : 26433074069
Status : Answered
Chosen Option : 1

Q.15 अर्थव्यवस्था के प्रत्येक क्षेत्रक द्वारा जीडीपी में किए गए योगदान से ही _____ तैयार होता है।

- Ans
- 1. सांकेतिक ढांचा
 - 2. वास्तविक ढांचा
 - 3. वास्तविक जीडीपी
 - 4. अर्थव्यवस्था का ढांचा

Question ID : 26433082165
Status : Answered
Chosen Option : 3

Q.16 ओलंपिक्स में भारत के प्रथम ध्वजवाहक का नाम क्या था?

- Ans
- 1. लाल शाह बुखारी
 - 2. पुरमा बैनर्जी
 - 3. ध्यानचंद
 - 4. जफर इकबाल

Question ID : 264330116258
Status : Not Answered
Chosen Option : --

Q.17 निम्नलिखित में से किसे सितंबर 2022 में त्रिपुरा, भारत से राज्य सभा के सदस्य के रूप में निर्वाचित किया गया था?

- Ans
- 1. अरुण सिंह
 - 2. राधा मोहन दास
 - 3. बिप्लब कुमार देब
 - 4. मरियम रेंग्मा

Question ID : 264330114948
Status : Not Answered
Chosen Option : --

Q.18 अक्टूबर 2022 के अनुसार, भारतीय कम्युनिस्ट पार्टी के महासचिव कौन हैं?

- Ans
- 1. सीताराम येचुरी
 - 2. बिर्णय विश्वम
 - 3. इंद्रजीत गुप्ता
 - 4. डी. राजा

Question ID : 264330114995

Status : Answered

Chosen Option : 1

Q.19 श्वेन त्सांग (Xuan Zang) के अनुसार, नालंदा बौद्ध मठ के _____ नए प्रवेशकों से कठिन प्रश्न पूछते हैं, जिनका उत्तर देना बहुत कठिन होता है।

- Ans
- 1. द्वारपाल
 - 2. सबसे पुराने भिक्षु
 - 3. मठ के प्रमुख
 - 4. सबसे छोटे भिक्षु

Question ID : 26433085220

Status : Answered

Chosen Option : 2

Q.20 घुमंतू पशुचारण (Nomadic herding) में, चरवाहे अपने जानवरों के साथ एक स्थान से दूसरे स्थान पर _____ और _____ के लिए निर्धारित मार्गों से भ्रमण करते हैं।

- Ans
- 1. आश्रय और चारे
 - 2. आश्रय और पैसों
 - 3. पैसों और पानी
 - 4. चारे और पानी

Question ID : 264330115539

Status : Answered

Chosen Option : 4

Section : Part-C-Elementary Mathematics

Q.1 सोनल और अर्जुन मिलकर एक कार्य को 57 दिनों में, अर्जुन और रोहन 38 दिनों में, और रोहन और सोनल 38 दिनों में पूरा कर सकते हैं, तो सोनल, अर्जुन और रोहन मिलकर उस कार्य को कितने दिनों में पूरा कर सकते हैं?

- Ans
- 1. 26.5 दिन
 - 2. 24.5 दिन
 - 3. 28.5 दिन
 - 4. 31.5 दिन

Question ID : 264330116874

Status : Answered

Chosen Option : 3

Q.2 120 m लंबी एक रेलगाड़ी 60 km/h की चाल से चलते हुए एक पुल को 18 सेकंड में पार करती है। पुल की लंबाई ज्ञात कीजिए।

- Ans 1. 180 m
 2. 160 m
 3. 170 m
 4. 150 m

Question ID : 26433075415
Status : Answered
Chosen Option : 1

Q.3 एक टेबल फैन को Rs.2,827.06 में बेचने पर, इसे Rs.2,230 में बेचने पर होने वाली हानि से 14% अधिक लाभ मिलता है। 14% लाभ प्राप्त करने के लिए इसका विक्रय मूल्य _____ होगा।

- Ans 1. Rs.2,860.26
 2. Rs.2,890
 3. Rs.3,045
 4. Rs.2,844.50

Question ID : 26433074923
Status : Not Attempted and Marked For Review
Chosen Option : --

Q.4 एक कपड़े की दुकान ने शर्ट पर 30 प्रतिशत की छूट की घोषणा की। रिवान छूट में 810 रुपए बचाना चाहता था। ऐसा करने के लिए उसे कितनी शर्ट खरीदनी चाहिए, यदि प्रत्येक शर्ट का अंकित मूल्य 540 रुपए है?

- Ans 1. 5
 2. 8
 3. 4
 4. 6

Question ID : 264330116759
Status : Answered
Chosen Option : 1

Q.5 एक दुकानदार 12% के लाभ पर सामान बेचता है और वास्तविक वजन से 15% कम वजन को उपयोग में लाता है। उसका कुल प्रतिशत लाभ (दशमलव के 2 स्थान तक शुद्ध) ज्ञात कीजिए।

- Ans 1. 25.80%
 2. 28.75%
 3. 31.76%
 4. 30.24%

Question ID : 26433080164
Status : Answered
Chosen Option : 3

Q.6 10 m × 10 m × 5 m की विमाओं वाले कमरे में रखे जा सकने वाले सबसे लंबे खंभे की लंबाई क्या है?

- Ans
- 1. 10 m
 - 2. 20 m
 - 3. 25 m
 - 4. 15 m

Question ID : 26433066369

Status : Answered

Chosen Option : 4

Q.7 उन संख्याओं का गुणनफल ज्ञात कीजिए जिनके महत्तम समापवर्तक (HCF) और लघुत्तम समापवर्त्य (LCM) क्रमशः 8 और 40 हैं।

- Ans
- 1. 320
 - 2. 360
 - 3. 300
 - 4. 240

Question ID : 264330116665

Status : Answered

Chosen Option : 1

Q.8 जॉन ने एक बैंक से 10% वार्षिक चक्रवृद्धि ब्याज दर पर कुछ राशि उधार ली, जिसके लिए ब्याज वार्षिक रूप से चक्रवृद्धि (संयोजित) किया जाना था। यदि उसने 4 वर्ष के अंत में ₹21,961.50 का भुगतान करके अपना उधार चुकाया, तो उसने कितनी राशि उधार ली थी?

- Ans
- 1. ₹17,000
 - 2. ₹16,000
 - 3. ₹15,000
 - 4. ₹14,000

Question ID : 26433071233

Status : Answered

Chosen Option : 3

Q.9 400 m लंबी एक वृत्ताकार दौड़ में, A और B एक ही बिंदु से एक ही समय पर क्रमशः 10 m/s और 16 m/s की चाल से चलना शुरू करते हैं। समान दिशा में दौड़ते हुए, वे आरंभ बिंदु पर पहली बार कितने समय बाद मिलेंगे?

- Ans
- 1. 180 s
 - 2. 200 s
 - 3. 240 s
 - 4. 220 s

Question ID : 26433074968

Status : Answered

Chosen Option : 3

Q.10 यदि $A : B = 5 : 6$ और $B : C = 6 : 7$ है, तो $(A + B) : (B + C) : (C + A)$ का मान ज्ञात कीजिए।

Ans 1. $11 : 13 : 12$

2. $11 : 12 : 13$

3. $12 : 13 : 11$

4. $13 : 11 : 12$

Question ID : 26433074990

Status : Answered

Chosen Option : 1

Q.11 एक डीलर अपने माल पर क्रय मूल्य से 15% अधिक अंकित करता है। फिर वह उस पर 20% की छूट देता है। उसका हानि प्रतिशत क्या होगा?

Ans 1. 7%

2. 8%

3. 6%

4. 5%

Question ID : 26433082970

Status : Answered

Chosen Option : 2

Q.12 एक बेलनाकार टैंक की क्षमता 5632 m^3 है। यदि इसके आधार का व्यास 16 m है, तो इसकी गहराई ज्ञात करें।

Ans 1. 28 m

2. 30 m

3. 32 m

4. 34 m

Question ID : 26433079807

Status : Answered

Chosen Option : 1

Q.13 The LCM of two numbers is 15 times their HCF. The sum of the LCM and the HCF is 112. If one of the numbers is 49, then the other number is:

Ans 1. 18

2. 24

3. 15

4. 21

Question ID : 26433079829

Status : Answered

Chosen Option : 3

Q.14 बीमारी की वजह से एक व्यक्ति का भार एक महीने में 80 kg से घटकर 64 kg हो गया है। व्यक्ति के भार में प्रतिशत कमी है:

- Ans
- 1. 24 प्रतिशत
 - 2. 14 प्रतिशत
 - 3. 16 प्रतिशत
 - 4. 20 प्रतिशत

Question ID : 264330116794

Status : Answered

Chosen Option : 4

Q.15 संख्या 350 में 20% की वृद्धि की जाती है और फिर 25% की कमी की जाती है। इस प्रकार बनने वाली नई संख्या ज्ञात कीजिए।

- Ans
- 1. 315
 - 2. 3244
 - 3. 320
 - 4. 340

Question ID : 26433080004

Status : Answered

Chosen Option : 1

Q.16 10 वस्तुओं का औसत मूल्य Rs.89 है। यदि एक वस्तु का मूल्य Rs.35 है, तो शेष 9 वस्तुओं का औसत मूल्य (Rs. में) ज्ञात कीजिए।

- Ans
- 1. 85
 - 2. 90
 - 3. 95
 - 4. 80

Question ID : 26433075717

Status : Answered

Chosen Option : 3

Q.17 $1\frac{1}{2}$ वर्ष के लिए 8% प्रति वर्ष की दर से एक निश्चित राशि के लिए चक्रवृद्धि ब्याज और साधारण ब्याज के बीच का अंतर ₹228 है, जब चक्रवृद्धि ब्याज अर्ध-वार्षिक रूप से संयोजित किया जाता है और साधारण ब्याज की गणना वार्षिक रूप से की जाती है। राशि क्या है?

- Ans
- 1. ₹46,531
 - 2. ₹46,900
 - 3. ₹47,000
 - 4. ₹46,875

Question ID : 26433090258

Status : Not Attempted and Marked For Review

Chosen Option : --

Q.18 7, 5 और 3 के चौथे समानुपाती तथा 7 और 13 के तीसरे समानुपाती के बीच का अनुपात _____ है।

- Ans 1. 15 : 169
 2. 75 : 448
 3. 25 : 21
 4. 21 : 25

Question ID : 26433079943
Status : Answered
Chosen Option : 1

Q.19 A और B एक काम को अलग-अलग क्रमशः 10 दिन और 15 दिन में पूरा कर सकते हैं। B अकेले 3 दिन कार्य करता है तथा फिर वह कार्य छोड़ देता है। A शेष कार्य को कितने दिन में पूरा करेगा?

- Ans 1. 7
 2. 9
 3. 8
 4. 6

Question ID : 26433081081
Status : Answered
Chosen Option : 3

Q.20 एक बस स्टेशन P से स्टेशन Q तक 70 km/h की चाल से और स्टेशन Q से स्टेशन P तक 90 km/h की चाल से जाती है। पूरी यात्रा के दौरान बस की औसत चाल क्या है?

- Ans 1. 80.25 km/h
 2. 78.75 km/h
 3. 82.35 km/h
 4. 75.78 km/h

Question ID : 26433080375
Status : Answered
Chosen Option : 2

Section : Part-D-English

Q.1 Select the most appropriate synonym of the given word.
Conceal

- Ans 1. Manifest
 2. Disclose
 3. Confess
 4. Hide

Question ID : 26433084681
Status : Not Answered
Chosen Option : --

Q.2 The following sentence has been split into four segments. Identify the segment that contains an error.

Nandu will /leave for the airport / as soon as / a taxi arrive.

- Ans
- 1. Nandu will
 - 2. leave for the airport
 - 3. as soon as
 - 4. a taxi arrive

Question ID : 26433099601
Status : Not Answered
Chosen Option : --

Q.3 Select the most appropriate option to fill in the blank.

Alas! The forest turned into a _____ land.

- Ans
- 1. buyer
 - 2. beer
 - 3. bare
 - 4. bear

Question ID : 26433090391
Status : Not Answered
Chosen Option : --

Q.4 Select the option that can be used as a one-word substitute for the given group of words.

The possible results of an action

- Ans
- 1. Implementation
 - 2. Decision
 - 3. Ramification
 - 4. Causation

Question ID : 26433089380
Status : Not Answered
Chosen Option : --

Q.5 Select the most appropriate option that can substitute the underlined segment in the given sentence.

Baldness is quite very usual among youngsters these days.

- Ans
- 1. hitting very severely
 - 2. getting very common
 - 3. having very certain
 - 4. happening very surely

Question ID : 26433088503
Status : Not Answered
Chosen Option : --

Q.6 Select the most appropriate meaning of the given idiom.

Bag and baggage

- Ans 1. With all belongings
 2. Lots of bags
 3. To make a beginning
 4. Close friends

Question ID : 26433072538
Status : Not Answered
Chosen Option : --

Q.7 Select the most appropriate ANTONYM of the given word.

Cruel

- Ans 1. Brutal
 2. Savage
 3. Trunk
 4. Kind

Question ID : 26433086374
Status : Not Answered
Chosen Option : --

Q.8 Select the most appropriate option to fill in the blanks and make the sentence meaningful.

They were not _____ to eat during the _____.

- Ans 1. aloud; brake
 2. allowed; brake
 3. aloud; break
 4. allowed; break

Question ID : 26433092101
Status : Not Answered
Chosen Option : --

Q.9 Select the most appropriate meaning of the given idiom.
Bed of roses

- Ans 1. A pleasant condition of life
 2. As one wishes
 3. Be bound to obey
 4. With all of one's belonging

Question ID : 26433084689
Status : Not Answered
Chosen Option : --

Q.10 Select the most appropriate synonym of the given word.

Bankrupt

- Ans 1. Careless
 2. Invert
 3. Well-off
 4. Insolvent

Question ID : 26433072187
Status : Not Answered
Chosen Option : --

Q.11 Select the INCORRECTLY spelt word.

- Ans 1. Slice
 2. Dribbling
 3. Solvant
 4. Temperament

Question ID : 26433073501
Status : Not Answered
Chosen Option : --

Q.12 Select the most appropriate option that can substitute the underlined segment in the given sentence. If there is no need to substitute it, select 'No substitution'.
The turtle can live in water as well as land.

- Ans 1. and also land
 2. also on land
 3. No substitution
 4. as well as on land.

Question ID : 26433093077
Status : Not Answered
Chosen Option : --

Q.13 Select the most appropriate ANTONYM to substitute the underlined word in the given sentence.

Her lively demeanour makes her the ideal choice for this job.

- Ans 1. dreamy
 2. grainy
 3. gloomy
 4. slimy

Question ID : 26433074010
Status : Not Answered
Chosen Option : --

Q.14 Select the most appropriate ANTONYM of the given word.

Steadfast

- Ans
- 1. Unwavering
 - 2. Dishonest
 - 3. Immobile
 - 4. Dependable

Question ID : 26433072216

Status : Not Answered

Chosen Option : --

Q.15 Select the INCORRECTLY spelt word.

- Ans
- 1. Ignorance
 - 2. Harass
 - 3. Occassion
 - 4. Misspell

Question ID : 26433073738

Status : Not Answered

Chosen Option : --

Comprehension:

In the following passage, some words have been deleted. Read the passage carefully and select the most appropriate option to fill in each blank.

A natural gas barrier in the upper atmosphere called the ozone layer (1.) _____ people and other living things from the sun's harmful ultraviolet (UV) radiation. Ozone exists in tiny concentrations (2.) _____ the atmosphere, but the majority (about 90%) is found in the stratosphere, a layer that is 10 to 50 kilometres (3.) _____ the surface of Earth. The ozone layer is essential to life on Earth because it (4.) _____ out the majority of the sun's harmful UV rays. In the 1970s, researchers (5.) _____ that the ozone layer was thinning.

SubQuestion No : 16

Q.16 Select the most appropriate option to fill in blank number 1.

- Ans
- 1. discovers
 - 2. flourishes
 - 3. shields
 - 4. attracts

Question ID : 26433089803

Status : Not Answered

Chosen Option : --

Comprehension:

In the following passage, some words have been deleted. Read the passage carefully and select the most appropriate option to fill in each blank.

A natural gas barrier in the upper atmosphere called the ozone layer (1.) _____ people and other living things from the sun's harmful ultraviolet (UV) radiation. Ozone exists in tiny concentrations (2.) _____ the atmosphere, but the majority (about 90%) is found in the stratosphere, a layer that is 10 to 50 kilometres (3.) _____ the surface of Earth. The ozone layer is essential to life on Earth because it (4.) _____ out the majority of the sun's harmful UV rays. In the 1970s, researchers (5.) _____ that the ozone layer was thinning.

SubQuestion No : 17

Q.17 Select the most appropriate option to fill in blank number 2.

- Ans 1. throughout
 2. under
 3. in
 4. below

Question ID : 26433089804

Status : Not Answered

Chosen Option : --

Comprehension:

In the following passage, some words have been deleted. Read the passage carefully and select the most appropriate option to fill in each blank.

A natural gas barrier in the upper atmosphere called the ozone layer (1.) _____ people and other living things from the sun's harmful ultraviolet (UV) radiation. Ozone exists in tiny concentrations (2.) _____ the atmosphere, but the majority (about 90%) is found in the stratosphere, a layer that is 10 to 50 kilometres (3.) _____ the surface of Earth. The ozone layer is essential to life on Earth because it (4.) _____ out the majority of the sun's harmful UV rays. In the 1970s, researchers (5.) _____ that the ozone layer was thinning.

SubQuestion No : 18

Q.18 Select the most appropriate option to fill in blank number 3.

- Ans 1. into
 2. onto
 3. at
 4. above

Question ID : 26433089805

Status : Not Answered

Chosen Option : --

Comprehension:

In the following passage, some words have been deleted. Read the passage carefully and select the most appropriate option to fill in each blank.

A natural gas barrier in the upper atmosphere called the ozone layer (1.) _____ people and other living things from the sun's harmful ultraviolet (UV) radiation. Ozone exists in tiny concentrations (2.) _____ the atmosphere, but the majority (about 90%) is found in the stratosphere, a layer that is 10 to 50 kilometres (3.) _____ the surface of Earth. The ozone layer is essential to life on Earth because it (4.) _____ out the majority of the sun's harmful UV rays. In the 1970s, researchers (5.) _____ that the ozone layer was thinning.

SubQuestion No : 19

Q.19 Select the most appropriate option to fill in blank number 4.

- Ans 1. blocks
 2. blames
 3. builds
 4. brims

Question ID : 26433089806

Status : Not Answered

Chosen Option : --

Comprehension:

In the following passage, some words have been deleted. Read the passage carefully and select the most appropriate option to fill in each blank.

A natural gas barrier in the upper atmosphere called the ozone layer (1.) _____ people and other living things from the sun's harmful ultraviolet (UV) radiation. Ozone exists in tiny concentrations (2.) _____ the atmosphere, but the majority (about 90%) is found in the stratosphere, a layer that is 10 to 50 kilometres (3.) _____ the surface of Earth. The ozone layer is essential to life on Earth because it (4.) _____ out the majority of the sun's harmful UV rays. In the 1970s, researchers (5.) _____ that the ozone layer was thinning.

SubQuestion No : 20

Q.20 Select the most appropriate option to fill in blank number 5.

- Ans 1. learn
 2. learning
 3. learns
 4. learnt

Question ID : 26433089807

Status : Not Answered

Chosen Option : --

Q.1 'समुद्र की सीमा अनंत है।' वाक्य में प्रयुक्त 'अनंत' शब्द का विलोम शब्द बताइए -

- Ans
- 1. अंत
 - 2. असीमित
 - 3. अंतहीन
 - 4. अनंग

Question ID : 26433069745
Status : Answered
Chosen Option : 1

Q.2 'ऊँट के मुँह में जीरा' मुहावरे का सही अर्थ है -

- Ans
- 1. अधिक खाने वाले को कम देना
 - 2. मित्रता करना
 - 3. ऊँट को जीरा खिलाना
 - 4. खाने में जीरा डालना

Question ID : 26433065923
Status : Answered
Chosen Option : 1

Q.3 'दोपहर _____'

उपर्युक्त वाक्य में रिक्त स्थान का उपयुक्त विकल्प निम्न में से क्या होगा?

- Ans
- 1. का अर्थ होता है दो पहरों का अनाचार
 - 2. का अर्थ होता है दो पहरों का समाहार
 - 3. का अर्थ होता है दो पहरों का संग्राम
 - 4. का अर्थ होता है दो पहरों का कदाचार

Question ID : 26433067041
Status : Answered
Chosen Option : 2

Q.4 निम्नलिखित वाक्यांश के लिए उपयुक्त शब्द का चयन विकल्पों में से कीजिए।
जिसने चित्त किसी विषय में दिया (लगाया) है

- Ans
- 1. विषयचित्त
 - 2. अग्रगामी
 - 3. दत्तचित्त
 - 4. अग्रसोची

Question ID : 26433069997
Status : Answered
Chosen Option : 3

Q.5 इस जल में अनेक जीव हैं।

रेखांकित शब्द के विलोम शब्द का चयन कीजिए।

- Ans
- 1. थल
 - 2. तालाब
 - 3. सलिल
 - 4. स्थान

Question ID : 26433079643
Status : Answered
Chosen Option : 1

Q.6 'आज विद्यालय में शिक्षिका ने अंताक्षरी खेलने को कहा।' वाक्य में अशुद्ध वर्तनी वाला शब्द है -

- Ans
- 1. अंताक्षरी
 - 2. शिक्षिका
 - 3. खेलने को कहा
 - 4. विद्यालय

Question ID : 26433069698
Status : Answered
Chosen Option : 3

Q.7 निम्नलिखित मुहावरे के लिये उपयुक्त सार्थक शब्द है-
नानी याद आना

- Ans
- 1. किसी से मिलने का मन करना
 - 2. मुसीबत देखकर घबरा जाना
 - 3. छुप कर बैठ जाना
 - 4. नानी को याद करना

Question ID : 26433065776
Status : Answered
Chosen Option : 2

Q.8 'जिसका खण्डन न हो सके' वाक्यांश के लिए उचित शब्द बताइए -

- Ans
- 1. समूल
 - 2. खण्डनीय
 - 3. खंडित
 - 4. अखण्डनीय

Question ID : 26433065906
Status : Answered
Chosen Option : 4

Q.9 रेखांकित शब्द-समूह के लिए सर्वाधिक उपयुक्त विकल्प चुनें।
मुसीबत का मारा वह किसी और स्थान पर जा बसा।

- Ans
- 1. अत्र
 - 2. सर्वत्र
 - 3. तत्र
 - 4. अन्यत्र

Question ID : 26433062287
Status : Answered
Chosen Option : 4

Q.10 हिमालय भारत का ताज है।

रेखांकित शब्द के उचित पर्यायवाची शब्द का चयन कीजिए।

- Ans
- 1. प्रभा
 - 2. गिरिराज
 - 3. मदन
 - 4. आसव

Question ID : 26433079626
Status : Answered
Chosen Option : 2

Q.11 निम्नलिखित वाक्य में से अशुद्धि पहचानें-
वह आया परंतु मैं नहीं गया।

- Ans
- 1. परंतु
 - 2. वह
 - 3. आया
 - 4. गया

Question ID : 26433066827
Status : Answered
Chosen Option : 1

Q.12 दो घोड़ों पर सवार होने से तुम सफल नहीं रहोगे।
उपरोक्त वाक्य में रेखांकित अंश के लिए कौन - सा शब्द उपयुक्त होगा?

- Ans
- 1. सवारी नीति
 - 2. दुरंगी नीति
 - 3. सफल नीति
 - 4. त्रिरंगी नीति

Question ID : 26433063059
Status : Answered
Chosen Option : 2

Q.13 निम्नलिखित में से अव्यय से बना विशेषण शब्द नहीं है -

- Ans
- 1. पिछला
 - 2. कैसा
 - 3. अगला
 - 4. बाहरी

Question ID : 26433085056

Status : Answered

Chosen Option : 2

Q.14 'आकलन' शब्द के लिए इनमें से उपयुक्त पर्यायवाची शब्द कौन-सा है?

- Ans
- 1. अगणन
 - 2. शरण
 - 3. नूतन
 - 4. गणना

Question ID : 26433066893

Status : Answered

Chosen Option : 4

Q.15 मूल क्रिया, प्रथम प्रेरणार्थक क्रिया और द्वितीय प्रेरणार्थक क्रिया का सही शब्द-क्रम चुनिए।

- Ans
- 1. उठना - उठाना - उठवाना
 - 2. कराना - करना - करावाना
 - 3. सुनना - सुनवाना - सुनाना
 - 4. बजवाना - बजना - बजाना

Question ID : 26433063044

Status : Answered

Chosen Option : 1

Comprehension:

निम्न गद्यांश में से कुछ शब्दों को हटा दिया गया है। गद्यांश के नीचे पूछे गए प्रश्नों में इन रिक्त स्थानों के लिए उपयुक्त शब्द का चयन विकल्पों में से कीजिए।

राष्ट्र के 1. _____ विकास के लिए चरित्र निर्माण परम आवश्यक है। जिस प्रकार वर्तमान में भौतिक निर्माण का कार्य अनेक योजनाओं के माध्यम से तीव्र गति के साथ सम्पन्न हो रहा है, वैसे ही वर्तमान की सबसे बड़ी आवश्यकता यह है कि देशवासियों के चरित्र निर्माण के लिए भी प्रयत्न किया जाए। उत्तम चरित्रवान व्यक्ति ही 2. _____ की सर्वोच्च संपदा है। जनतंत्र के लिए तो यह एक महान 3. _____ योजना है। जन-समाज में राष्ट्र, संस्कृति, 4. _____ एवं परिवार के प्रति हमारा क्या कर्तव्य है इसका पूर्ण रूप से बोध कराना एवं राष्ट्र में व्याप्त समग्र भ्रष्टाचार के प्रति निषेधात्मक वातावरण का निर्माण करना ही चरित्र निर्माण का प्रथम 5. _____ है।

SubQuestion No : 16

Q.16 रिक्त स्थान 1 के लिए सर्वाधिक उपयुक्त शब्द इनमें से क्या होगा?

- Ans
- 1. अधिक
 - 2. सर्वांगीण
 - 3. पूरे
 - 4. सभी

Question ID : 26433072588

Status : Answered

Chosen Option : 2

Comprehension:

निम्न गद्यांश में से कुछ शब्दों को हटा दिया गया है। गद्यांश के नीचे पूछे गए प्रश्नों में इन रिक्त स्थानों के लिए उपयुक्त शब्द का चयन विकल्पों में से कीजिए।

राष्ट्र के 1. _____ विकास के लिए चरित्र निर्माण परम आवश्यक है। जिस प्रकार वर्तमान में भौतिक निर्माण का कार्य अनेक योजनाओं के माध्यम से तीव्र गति के साथ सम्पन्न हो रहा है, वैसे ही वर्तमान की सबसे बड़ी आवश्यकता यह है कि देशवासियों के चरित्र निर्माण के लिए भी प्रयत्न किया जाए। उत्तम चरित्रवान व्यक्ति ही 2. _____ की सर्वोच्च संपदा है। जनतंत्र के लिए तो यह एक महान 3. _____ योजना है। जन-समाज में राष्ट्र, संस्कृति, 4. _____ एवं परिवार के प्रति हमारा क्या कर्तव्य है इसका पूर्ण रूप से बोध कराना एवं राष्ट्र में व्याप्त समग्र भ्रष्टाचार के प्रति निषेधात्मक वातावरण का निर्माण करना ही चरित्र निर्माण का प्रथम 5. _____ है।

SubQuestion No : 17

Q.17 रिक्त स्थान 2 के लिए सर्वाधिक उपयुक्त शब्द इनमें से क्या होगा?

- Ans
- 1. मोहल्ले
 - 2. प्रदेश
 - 3. राष्ट्र
 - 4. राज्य

Question ID : 26433072589

Status : Answered

Chosen Option : 3

Comprehension:

निम्न गद्यांश में से कुछ शब्दों को हटा दिया गया है। गद्यांश के नीचे पूछे गए प्रश्नों में इन रिक्त स्थानों के लिए उपयुक्त शब्द का चयन विकल्पों में से कीजिए।

राष्ट्र के 1. _____ विकास के लिए चरित्र निर्माण परम आवश्यक है। जिस प्रकार वर्तमान में भौतिक निर्माण का कार्य अनेक योजनाओं के माध्यम से तीव्र गति के साथ सम्पन्न हो रहा है, वैसे ही वर्तमान की सबसे बड़ी आवश्यकता यह है कि देशवासियों के चरित्र निर्माण के लिए भी प्रयत्न किया जाए। उत्तम चरित्रवान व्यक्ति ही 2. _____ की सर्वोच्च संपदा है। जनतंत्र के लिए तो यह एक महान 3. _____ योजना है। जन-समाज में राष्ट्र, संस्कृति, 4. _____ एवं परिवार के प्रति हमारा क्या कर्तव्य है इसका पूर्ण रूप से बोध कराना एवं राष्ट्र में व्याप्त समग्र भ्रष्टाचार के प्रति निषेधात्मक वातावरण का निर्माण करना ही चरित्र निर्माण का प्रथम 5. _____ है।

SubQuestion No : 18

Q.18 रिक्त स्थान 3 के लिए सर्वाधिक उपयुक्त शब्द इनमें से क्या होगा?

- Ans 1. कल्याणकारी
 2. मनोहारी
 3. हितकारी
 4. लाभकारी

Question ID : 26433072590

Status : Answered

Chosen Option : 1

Comprehension:

निम्न गद्यांश में से कुछ शब्दों को हटा दिया गया है। गद्यांश के नीचे पूछे गए प्रश्नों में इन रिक्त स्थानों के लिए उपयुक्त शब्द का चयन विकल्पों में से कीजिए।

राष्ट्र के 1. _____ विकास के लिए चरित्र निर्माण परम आवश्यक है। जिस प्रकार वर्तमान में भौतिक निर्माण का कार्य अनेक योजनाओं के माध्यम से तीव्र गति के साथ सम्पन्न हो रहा है, वैसे ही वर्तमान की सबसे बड़ी आवश्यकता यह है कि देशवासियों के चरित्र निर्माण के लिए भी प्रयत्न किया जाए। उत्तम चरित्रवान व्यक्ति ही 2. _____ की सर्वोच्च संपदा है। जनतंत्र के लिए तो यह एक महान 3. _____ योजना है। जन-समाज में राष्ट्र, संस्कृति, 4. _____ एवं परिवार के प्रति हमारा क्या कर्तव्य है इसका पूर्ण रूप से बोध कराना एवं राष्ट्र में व्याप्त समग्र भ्रष्टाचार के प्रति निषेधात्मक वातावरण का निर्माण करना ही चरित्र निर्माण का प्रथम 5. _____ है।

SubQuestion No : 19

Q.19 रिक्त स्थान 4 के लिए सर्वाधिक उपयुक्त शब्द इनमें से क्या होगा?

- Ans 1. राष्ट्र
 2. समाज
 3. राज्य
 4. लोग

Question ID : 26433072591

Status : Answered

Chosen Option : 2

Comprehension:

निम्न गद्यांश में से कुछ शब्दों को हटा दिया गया है। गद्यांश के नीचे पूछे गए प्रश्नों में इन रिक्त स्थानों के लिए उपयुक्त शब्द का चयन विकल्पों में से कीजिए।

राष्ट्र के 1. _____ विकास के लिए चरित्र निर्माण परम आवश्यक है। जिस प्रकार वर्तमान में भौतिक निर्माण का कार्य अनेक योजनाओं के माध्यम से तीव्र गति के साथ सम्पन्न हो रहा है, वैसे ही वर्तमान की सबसे बड़ी आवश्यकता यह है कि देशवासियों के चरित्र निर्माण के लिए भी प्रयत्न किया जाए। उत्तम चरित्रवान व्यक्ति ही 2. _____ की सर्वोच्च संपदा है। जनतंत्र के लिए तो यह एक महान 3. _____ योजना है। जन-समाज में राष्ट्र, संस्कृति, 4. _____ एवं परिवार के प्रति हमारा क्या कर्तव्य है इसका पूर्ण रूप से बोध कराना एवं राष्ट्र में व्याप्त समग्र भ्रष्टाचार के प्रति निषेधात्मक वातावरण का निर्माण करना ही चरित्र निर्माण का प्रथम 5. _____ है।

SubQuestion No : 20

Q.20 रिक्त स्थान 5 के लिए सर्वाधिक उपयुक्त शब्द इनमें से क्या होगा?

- Ans
- 1. रास्ता
 - 2. कदम
 - 3. तरीका
 - 4. सोपान

Question ID : 26433072592

Status : Answered

Chosen Option : 4

KD Job Update

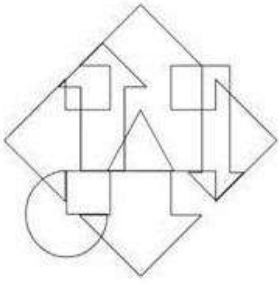
Constable GD in CAPFs SSF Rifleman GD in Assam Rifles and Sepoy in NCB Examination 2022

Roll Number	KD Job Updates
Candidate Name	KD Job Updates
Venue Name	iON Digital Zone iDZ Gram Gangedi Near Mahaveer Tapobhumi
Exam Date	10/01/2023
Exam Time	2:30 PM - 3:30 PM
Subject	Constable GD Examination 2022

Section : Part-A-General Intelligence and Reasoning

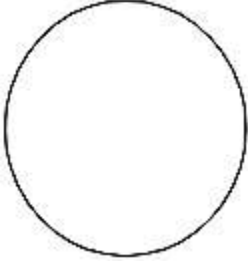
KD Job Updates

Q.1 उस विकल्प आकृति का चयन करें जो नीचे दी गई आकृति में अंतर्निहित है।
(आकृति घुमाने की अनुमति नहीं है)

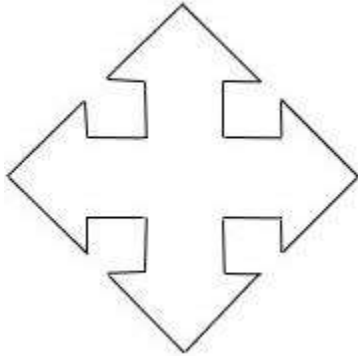


Ans

✗ 1.




✓ 2.



✗ 3.



✗ 4.



Question ID : 26433085754

Status : Answered

Chosen Option : 2

Q.2 निम्नलिखित में से कौन-सा अक्षर-समूह दी गई श्रृंखला में प्रश्न-चिह्न (?) के स्थान पर आएगा?
LPKT, NNMR, PLOP, ?, THSL

Ans ✗ 1. RIQN

✗ 2. SJQN

✗ 3. SJQO

✓ 4. RJQN

Question ID : 26433080688

Status : Answered

Chosen Option : 4

Q.3 एक निश्चित कूट भाषा में, 'find a solution' को '418' के रूप में कूटबद्ध किया जाता है, 'be attentive' को '29' के रूप में कूटबद्ध किया जाता है और 'answers are correct' को '737' के रूप में कूटबद्ध किया जाता है। उसी भाषा में 'check the question' को किस प्रकार कूटबद्ध किया जाएगा?

- Ans
- 1. 427
 - 2. 649
 - 3. 538
 - 4. 835

Question ID : 26433067779

Status : Answered

Chosen Option : 3

Q.4 उस विकल्प का चयन करें जो तीसरे शब्द से उसी प्रकार संबंधित है जिस प्रकार दूसरा शब्द पहले शब्द से संबंधित है।

(शब्दों को अर्थपूर्ण शब्दों के रूप में मानना है, और उन्हें शब्द में अक्षरों/व्यंजनों/स्वरों की संख्या के आधार पर एक-दूसरे से संबंधित नहीं करना है।)

मुंबई : महाराष्ट्र :: भोपाल : ?

- Ans
- 1. उत्तर प्रदेश
 - 2. मध्य प्रदेश
 - 3. दिल्ली
 - 4. आंध्र प्रदेश

Question ID : 26433087260

Status : Answered

Chosen Option : 2

Q.5 निम्नलिखित में से कौन-सी संख्या दी गई श्रृंखला में प्रश्न-चिह्न (?) का स्थान लेगी?
3, 21, 147, ?, 7203

- Ans
- 1. 1218
 - 2. 882
 - 3. 1323
 - 4. 1029

Question ID : 26433092490

Status : Answered

Chosen Option : 4

Q.6 दिए गए विकल्पों में से वह संख्या चुनिए, जो निम्नलिखित श्रृंखला में प्रश्न-चिह्न (?) को प्रतिस्थापित कर सके।

213, 216, 225, 240, 261, ?

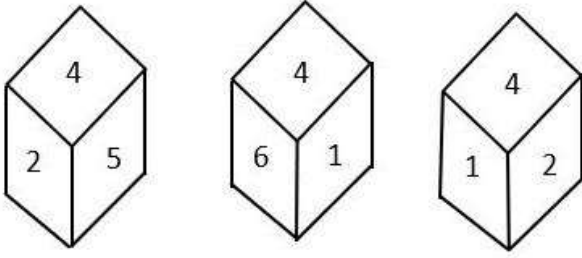
- Ans
- 1. 288
 - 2. 286
 - 3. 289
 - 4. 268

Question ID : 26433078921

Status : Answered

Chosen Option : 1

Q.7 एक ही पासे की तीन अलग-अलग स्थितियों को दर्शाया गया है। '4' दर्शाने वाले फलक के विपरीत फलक पर मौजूद संख्या ज्ञात कीजिए।



- Ans
- 1. 1
 - 2. 2
 - 3. 3
 - 4. 5

Question ID : 26433090076

Status : Answered

Chosen Option : 3

Q.8 इस प्रश्न में तीन कथन दिए गए हैं, जिसके बाद दो निष्कर्ष I और II दिए गए हैं। कथनों को सत्य मानते हुए, भले ही वे सर्वज्ञात तथ्यों से भिन्न प्रतीत होते हों, निर्णय कीजिए कि कौन-सा/से निष्कर्ष कथनों का तार्किक रूप से अनुसरण करता है/अनुसरण करते हैं।

कथन:

सभी पंखे बल्ब हैं।

सभी बल्ब ट्यूब लाइटें हैं।

कुछ ट्यूबलाइटें नए हैं।

निष्कर्ष:

I. सभी पंखे नए हैं।

II. सभी ट्यूब लाइटें पंखे हैं।

- Ans
- 1. न तो निष्कर्ष I और न ही II अनुसरण करता है।
 - 2. केवल निष्कर्ष I अनुसरण करता है।
 - 3. निष्कर्ष I और II दोनों अनुसरण करते हैं।
 - 4. केवल निष्कर्ष II अनुसरण करता है।

Question ID : 26433070381

Status : Answered

Chosen Option : 1

Q.9 सात व्यक्ति A, H, D, F, T, E और G एक सीधी पंक्ति में उत्तर की ओर मुख करके बैठे हैं। E के बाईं ओर केवल तीन व्यक्ति बैठे हैं। G और H, E के ठीक बगल में हैं। A पंक्ति के दाएं सिरे पर बैठा है। D, A के ठीक बगल में है। F, E के बाईं ओर दूसरे स्थान पर बैठा है। पंक्ति के बाएं सिरे पर कौन बैठा है?

- Ans
- 1. T
 - 2. A
 - 3. F
 - 4. D

Question ID : 26433095009

Status : Answered

Chosen Option : 1

Q.10 एक निश्चित कूट भाषा में 'FINGER' को 'HHPIDT' और 'DESTINY' को 'FDUVHPA' लिखा जाता है। उसी भाषा में 'GRANTED' किस प्रकार लिखा जाएगा?

- Ans 1. ITZPVDF
 2. IQCMVDF
 3. HTZPVCE
 4. HTCOVCE

Question ID : 26433081767

Status : Marked For Review

Chosen Option : 1

Q.11 किस विकल्प में निम्नलिखित शब्दों का वह क्रम दिया गया है, जिस क्रम में वे अंग्रेजी शब्दकोश में आते हैं?

- 1 Seminar
- 2 Semolina
- 3 Senior
- 4 September
- 5 Serious

- Ans 1. 1,3,4,2,5
 2. 5,4,3,2,1
 3. 1,2,3,4,5
 4. 5,3,4,1,2

Question ID : 26433069306

Status : Marked For Review

Chosen Option : 3

Q.12 'A + B' का अर्थ है 'A, B का पुत्र है'
'A - B' का अर्थ है 'A, B की बहन है'
'A × B' का अर्थ है 'A, B का भाई है'
'A ÷ B' का अर्थ है 'A, B की पत्नी है'
यदि $A + B ÷ C × D - E + F$ है, तो निम्न में से कौन सा कथन सही नहीं है।

- Ans 1. D, F की पुत्री है।
 2. A, C का पुत्र है।
 3. A, F का पोता है।
 4. E, B का भाई है।

Question ID : 26433090050

Status : Answered

Chosen Option : 4

Q.13 कौन-सा अक्षर-समूह दी गई शृंखला में प्रश्नचिह्न (?) के स्थान पर आकर शृंखला को पूर्ण करेगा?
AJRZ, DMTC, ?, JSXI, MVZL

- Ans 1. HRVF
 2. HPVF
 3. GPVF
 4. GRVF

Question ID : 26433067947

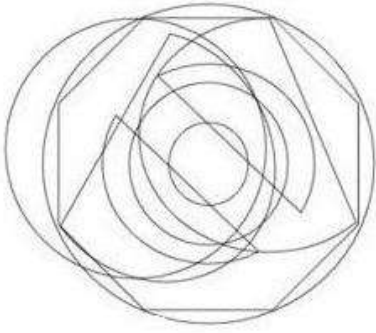
Status : Marked For Review

Chosen Option : 3

Q.14


उस विकल्प आकृति का चयन करें जो नीचे दी गई आकृति में अंतर्निहित है।

(आकृति घुमाने की अनुमति नहीं है)



Ans

✗ 1.



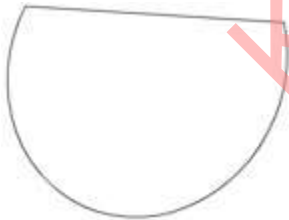
✗ 2.



✓ 3.



✗ 4.



KD Job Updates

Question ID : 26433085752

Status : Marked For Review

Chosen Option : 3

Q.15 उस विकल्प का चयन करें जो पांचवें अक्षर-समूह से उसी प्रकार संबंधित है जिस प्रकार दूसरा अक्षर-समूह पहले अक्षर-समूह से संबंधित है और चौथा अक्षर-समूह तीसरे अक्षर-समूह से संबंधित है।
 ROOT : QQTV :: STEM : VGUO :: LEAF : ?

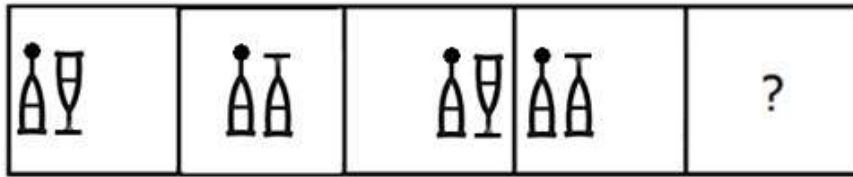
- Ans
- 1. GDNH
 - 2. GCHN
 - 3. GCNH
 - 4. NGCH

Question ID : 26433057247

Status : Not Attempted and Marked For Review

Chosen Option : --

Q.16 उस आकृति का चयन कीजिए, जो निम्नलिखित शृंखला में आगे आएगी।



Ans

- 1.
- 2.
- 3.
- 4.

Question ID : 26433079024

Status : Answered

Chosen Option : 4

Q.17 6 मित्र F, U, K, S, M और A, एक वृत्ताकार मेज के परितः केंद्र की ओर मुख करके बैठे हैं। A और S, K के ठीक बगल में बैठे हैं। F, K के सामने बैठा है। S, F के बगल में नहीं बैठा है। M, A और F के ठीक बगल में बैठा है। यदि M और S अपने स्थान आपस में परस्पर बदल लेते हैं, तो A और F के ठीक बगल में कौन बैठा है?

- Ans
- 1. M
 - 2. U
 - 3. S
 - 4. K

Question ID : 26433068077

Status : Marked For Review

Chosen Option : 3

Q.18 गणितीय चिहनों के उस सही संयोजन का चयन करें, जिसे क्रमिक रूप से * चिहनों के स्थान पर रखे जाने पर दिया गया समीकरण संतुलित हो जाएगा।

$$89 * 5 * 15 * 32 * 8 * 18$$

- Ans
- 1. $\div, +, -, \times, =$
 - 2. $-, \times, +, \div, =$
 - 3. $\times, +, \div, -, =$
 - 4. $+, -, \div, \times, =$

Question ID : 26433085357

Status : Not Attempted and Marked For Review

Chosen Option : --

Q.19 उस समुच्चय का चयन करें, जिसमें संख्याएँ उसी प्रकार संबंधित हैं, जिस प्रकार निम्नलिखित समुच्चयों की संख्याएँ हैं।

(नोट: संख्याओं को उसके घटक अंकों में विभाजित किए बिना, पूर्ण संख्याओं पर ही गणितीय संक्रियाएँ की जानी चाहिए। जैसे 13 - मान लीजिए 13 पर गणितीय संक्रियाएँ जैसे कि 13 में जोड़ना/घटाना/गुणा करना आदि किया जा सकता है। 13 को 1 और 3 में तोड़कर और फिर 1 और 3 पर गणितीय संक्रियाएँ करने की अनुमति नहीं है।)

(216, 12, 15)

(432, 23, 31)

- Ans
- 1. (304, 14, 24)
 - 2. (484, 16, 32)
 - 3. (380, 24, 18)
 - 4. (150, 11, 14)

Question ID : 26433076475

Status : Marked For Review

Chosen Option : 2

Q.20 नीचे दिए गए समीकरण को गणितीय रूप से सही बनाने के लिए किन दो चिन्हों को परस्पर बदलना चाहिए?

$$136 \div 17 + 102 - 3 \times 2 = 187$$

- Ans
- 1. + और ×
 - 2. × और -
 - 3. ÷ और -
 - 4. ÷ और ×

Question ID : 264330117569

Status : Not Attempted and Marked For Review

Chosen Option : --

Section : Part-B-General Knowledge and General awareness

Q.1 25 जून 2015 को _____ को लॉन्च किया गया, जिसका उद्देश्य वर्ष 2022 तक शहरी क्षेत्रों में सभी के लिए आवास उपलब्ध कराना है।

- Ans
- 1. वैश्विक आवास प्रौद्योगिकी चुनौती
 - 2. प्रधानमंत्री आवास योजना (शहरी)
 - 3. प्रधानमंत्री गरीब कल्याण अन्न योजना
 - 4. O-SMART योजना

Question ID : 264330116161

Status : Answered

Chosen Option : 2

Q.2 निम्नलिखित में से कौन-सा देश लुसोफोनिया खेलों का हिस्सा नहीं है?

- Ans
- 1. पुर्तगाल
 - 2. मकाउ
 - 3. जर्मनी
 - 4. भारत

Question ID : 264330115941

Status : Marked For Review

Chosen Option : 4

Q.3 RBI के अनुसार, 1980 के दशक में भारत की GDP में सेवा क्षेत्र की हिस्सेदारी कितने प्रतिशत थी?

- Ans
- 1. 38.6 प्रतिशत
 - 2. 18.6 प्रतिशत
 - 3. 58.6 प्रतिशत
 - 4. 78.6 प्रतिशत

Question ID : 264330116114

Status : Marked For Review

Chosen Option : 2

Q.4 निम्नलिखित में से कौन सा त्यौहार असम में देवी कामाख्या के मासिक धर्म की अवधि को चिह्नित करता है?

- Ans
- 1. अम्बुबाची मेला
 - 2. मोत्सु
 - 3. वंगाला
 - 4. चापचर कुट

Question ID : 264330115113
Status : Answered
Chosen Option : 1

Q.5 The _____ industry covers a wide range of products from transistor sets to television.

- Ans
- 1. canal irrigation
 - 2. fertilizer
 - 3. jute processing
 - 4. electronics

Question ID : 264330115401
Status : Answered
Chosen Option : 4

Q.6 In the Indian Constitution 'the abolition of untouchability' provision is mentioned in _____.

- Ans
- 1. Article 14
 - 2. Article 19
 - 3. Article 17
 - 4. Article 32

Question ID : 26433090671
Status : Answered
Chosen Option : 3

Q.7 In which of the following places was the Indian Grand Prix-4 held in June 2021?

- Ans
- 1. Jalandhar
 - 2. Ludhiana
 - 3. Amritsar
 - 4. Patiala

Question ID : 26433072892
Status : Marked For Review
Chosen Option : 1

Q.8 What is the colour of the flame when magnesium burns in the presence of oxygen?

- Ans
- 1. Green
 - 2. Yellow
 - 3. White
 - 4. Red

Question ID : 26433087842

Status : Marked For Review

Chosen Option : 1

Q.9 Three of the following four are examples of Coelenterata phylum, and therefore form a group. Which is the one that does not belong to that group?

- Ans
- 1. Brain coral
 - 2. Sea anemone
 - 3. Liver fluke
 - 4. Sea-pen

Question ID : 264330115186

Status : Not Attempted and Marked For Review

Chosen Option : --

Q.10 स्वामी दयानंद सरस्वती ने एक संगठन _____, जिसने हिंदू धर्म में सुधार का प्रयास किया, की स्थापना की।

- Ans
- 1. आदि हिंदू समाज
 - 2. वेदांत समाज
 - 3. आदि धर्म समाज
 - 4. आर्य समाज

Question ID : 264330103802

Status : Answered

Chosen Option : 4

Q.11 भारत में रेडियो प्रसारण 1923 में _____ द्वारा शुरू किया गया था।

- Ans
- 1. लायंस क्लब ऑफ बॉम्बे
 - 2. रेडियो क्लब ऑफ बॉम्बे
 - 3. रोटरेक्ट क्लब ऑफ बॉम्बे
 - 4. रोटरी क्लब ऑफ बॉम्बे

Question ID : 264330115603

Status : Marked For Review

Chosen Option : 3

Q.12 निम्नलिखित में से किस गुप्त शासक को उसकी सैन्य उपलब्धियों के कारण 'भारत का नेपोलियन' कहा जाता था?

- Ans
- 1. श्रीगुप्त
 - 2. चंद्रगुप्त द्वितीय
 - 3. समुद्रगुप्त
 - 4. चंद्रगुप्त प्रथम

Question ID : 264330115455
Status : Answered
Chosen Option : 3

Q.13 While computing the national income, _____ is taken as a factor.

- Ans
- 1. Export
 - 2. Electricity bill
 - 3. Chemical used
 - 4. Road construction

Question ID : 264330115356
Status : Marked For Review
Chosen Option : 1

Q.14 2018 में, भरतनाट्यम में संगीत नाटक अकादमी पुरस्कार किसने जीता?

- Ans
- 1. राधा श्रीधर
 - 2. पसुमूर्ति रामलिंग शास्त्री
 - 3. मादम्बी सुब्रमण्यम नंबूदरी
 - 4. अखम लक्ष्मी देवी

Question ID : 264330115815
Status : Marked For Review
Chosen Option : 2

Q.15 Which Article of the Constitution of India talks about Superintendence, direction and control of elections?

- Ans
- 1. Article 324
 - 2. Article 356
 - 3. Article 367
 - 4. Article 333

Question ID : 26433074899
Status : Answered
Chosen Option : 1

Q.16 नवंबर 2022 तक की स्थिति के अनुसार, निम्नलिखित में से कौन दिल्ली, भारत का उपराज्यपाल है?

- Ans
- 1. अनिल बैजल
 - 2. मनोज सिन्हा
 - 3. अरविंद केजरीवाल
 - 4. विनय कुमार सक्सेना

Question ID : 264330114937
Status : Marked For Review
Chosen Option : 4

Q.17 ई.कृष्ण अय्यर का संबंध किस नृत्य शैली से है?

- Ans
- 1. भरतनाट्यम
 - 2. ओडिसी
 - 3. कथक
 - 4. कुचिपुड़ी

Question ID : 26433086576
Status : Answered
Chosen Option : 1

Q.18 भारत में, प्रत्येक _____ में एक बार जनसंख्या जनगणना की जाती है।

- Ans
- 1. 5 वर्ष
 - 2. 12 वर्ष
 - 3. 10 वर्ष
 - 4. 15 वर्ष

Question ID : 264330116024
Status : Answered
Chosen Option : 3

Q.19 मार्च 2022 में किस केंद्रीय मंत्री ने इंडिया वाटर पिच-पायलट-स्केल स्टार्ट-अप चैलेंज (India Water Pitch-Pilot-Scale Start-up Challenge) लॉन्च किया?

- Ans
- 1. हरदीप सिंह पुरी
 - 2. डी. थारा
 - 3. मनोज जोशी
 - 4. कौशल किशोर

Question ID : 26433081828
Status : Not Answered
Chosen Option : --

Q.20 A _____ is a barrier across flowing water that obstructs, directs or retards the flow, often creating a reservoir, lake or impoundment.

- Ans
- 1. tributary
 - 2. moat
 - 3. dam
 - 4. meander

Question ID : 26433092218

Status : Not Answered

Chosen Option : --

Section : Part-C-Elementary Mathematics

Q.1 रामू और मोहन अलग-अलग एक कार्य को क्रमशः 10 घंटे और 16 घंटे में पूरा कर सकते हैं। 2 घंटे एक साथ कार्य करने के बाद, मोहन कार्य छोड़ देता है। रामू शेष कार्य को कितने घंटे में पूरा करेगा?

- Ans
- 1. $5\frac{3}{4}$
 - 2. $7\frac{3}{4}$
 - 3. $6\frac{3}{4}$
 - 4. $6\frac{1}{4}$

Question ID : 26433075573

Status : Marked For Review

Chosen Option : 3

Q.2 20 लीटर और 36 लीटर के दो कंटेनरों में दूध और पानी का अनुपात क्रमशः 3 : 7 और 7 : 5 है। यदि दोनों कंटेनरों को एक दूसरे में मिश्रित कर दिया जाए, तो दूध और पानी का अनुपात क्या होगा?

- Ans
- 1. 21 : 23
 - 2. 21 : 25
 - 3. 27 : 29
 - 4. 9 : 13

Question ID : 26433091899

Status : Answered

Chosen Option : 3

Q.3 हर्षि ने स्टोर से एक नई स्वेटशर्ट खरीदी, जब वे 40 प्रतिशत की छूट दे रहे थे। यदि स्वेटशर्ट का अंकित मूल्य 2999 रुपए है, तो हर्षि ने छूट के साथ कितना भुगतान किया?

- Ans
- 1. 2099.20 रुपए
 - 2. 1799.40 रुपए
 - 3. 1899.80 रुपए
 - 4. 2399.50 रुपए

Question ID : 264330116730

Status : Answered

Chosen Option : 2

Q.4 एक व्यक्ति ने दो कुर्सियाँ Rs.475 प्रत्येक में बेचीं, एक पर 25% का लाभ और दूसरी पर 20% की हानि हुई। यदि उसने दोनों कुर्सियों को Rs.575 प्रत्येक में बेचा होता, तो उसका लाभ/ हानि प्रतिशत (निकटतम पूर्णांक तक पूर्णांकित) कितना होता?

- Ans
- 1. 45% लाभ
 - 2. 41% लाभ
 - 3. 25% हानि
 - 4. 18% लाभ

Question ID : 26433071284

Status : Not Attempted and Marked For Review

Chosen Option : --

Q.5 एक कार 108 km/h की चाल से एक निश्चित दूरी 3 घंटे में तय करती है। यदि चाल 27 km/h कम कर दी जाती है, तो कार द्वारा समान दूरी को तय करने में लगने वाला समय क्या होगा?

- Ans
- 1. $2\frac{1}{2}$ h
 - 2. $3\frac{1}{2}$ h
 - 3. 2 h
 - 4. 4 h

Question ID : 26433087375

Status : Answered

Chosen Option : 4

Q.6 एक चोर ने अपनी यात्रा 60 km/h की चाल से शुरू की। 30 मिनट के बाद, पुलिस ने उसी जगह से 80 km/h की चाल से पीछा करना शुरू किया। पुलिस को चोर को पकड़ने में कितना समय (घंटे में) लगेगा?

Ans

✗ 1. $\frac{5}{2}$ घंटे

✓ 2. $\frac{3}{2}$ घंटे

✗ 3. $\frac{1}{2}$ घंटे

✗ 4. $\frac{1}{3}$ घंटे

Question ID : 26433081044

Status : Answered

Chosen Option : 2

Q.7 राहुल एक निश्चित दूरी 4 km/h की चाल से तय करता है और उसी मार्ग से 3 km/h की चाल से वापस आता है। पूरी यात्रा के लिए उसकी औसत चाल क्या थी (2 दशमलव स्थानों तक सही)?

Ans

✗ 1. 5.92 km/h

✗ 2. 2.5 km/h

✓ 3. 3.43 km/h

✗ 4. 1.23 km/h

Question ID : 26433065293

Status : Answered

Chosen Option : 3

Q.8 रोहन अपनी पूरी यात्रा को तीन बराबर भागों में विभाजित करता है और अपनी कार से पहले भाग को 30 km/h की चाल से, दूसरे भाग को 40 km/h की चाल से और अंतिम भाग को 50 km/h की चाल से तय करता है। उसकी पूरी यात्रा के दौरान उसकी कार की औसत चाल (km/h में) क्या है?

Ans

✗ 1. $35\frac{14}{47}$

✗ 2. 45

✗ 3. 40

✓ 4. $38\frac{14}{47}$

Question ID : 26433075541

Status : Answered

Chosen Option : 1

Q.9 A एक कार्य को 8 दिनों में और B 24 दिनों में कर सकता है। वे एक साथ शुरू करते हैं, लेकिन कार्य पूरा होने से 4 दिन पहले, A छोड़ देता है। सम्पूर्ण कार्य को पूरा करने के लिए A और B द्वारा लिए गए दिनों की संख्या ज्ञात करें।

- Ans
- 1. 11 दिन
 - 2. 7 दिन
 - 3. 8 दिन
 - 4. 9 दिन

Question ID : 264330116845

Status : Answered

Chosen Option : 4

Q.10 एक वस्तु का मूल्य 2 वर्ष में घटकर ₹18,000 से ₹14,580 हो गया। वस्तु के मूल्य में मूल्यहास की वार्षिक दर ज्ञात करें।

- Ans
- 1. 8%
 - 2. 12%
 - 3. 10%
 - 4. 9%

Question ID : 26433082406

Status : Answered

Chosen Option : 4

Q.11 24 और 36 का तृतीय समानुपाती क्या होगा?

- Ans
- 1. 45
 - 2. 46
 - 3. 64
 - 4. 54

Question ID : 26433074993

Status : Answered

Chosen Option : 4

Q.12 दो शंकुओं के आयतन 3 : 2 के अनुपात में हैं और उनकी त्रिज्याएँ 3 : 4 के अनुपात में हैं। उनकी ऊँचाई का अनुपात क्या है?

- Ans
- 1. 9:4
 - 2. 2:1
 - 3. 4:9
 - 4. 8:3

Question ID : 26433075481

Status : Answered

Chosen Option : 4

Q.13 Rs.5,750 पर एक वर्ष के लिए 16% की दर से वार्षिक रूप से चक्रवृद्धि होने वाले ब्याज और अर्ध-वार्षिक रूप से चक्रवृद्धि होने वाले ब्याज के बीच कितना अंतर है?

- Ans
- 1. Rs.49.76
 - 2. Rs.32.58
 - 3. Rs.29.50
 - 4. Rs.36.80

Question ID : 26433064989

Status : Answered

Chosen Option : 4

Q.14 निम्नलिखित व्यंजक का मूल्यांकन कीजिए।

$$\left[\frac{-4}{7} \div \frac{1}{12}\right] \div \left[-\frac{4}{5} \times \{(-2) - (-\frac{2}{7})\}\right]$$

- Ans
- 1. 5
 - 2. -5
 - 3. $\frac{1}{5}$
 - 4. $-\frac{1}{5}$

Question ID : 26433090248

Status : Marked For Review

Chosen Option : 2

Q.15 28 के वर्ग को उस सबसे बड़ी संख्या से विभाजित किया जाता है जो 42 और 56 दोनों को पूर्णतः विभाजित कर सकती है। परिणाम क्या है?

- Ans
- 1. 56
 - 2. 28
 - 3. 42
 - 4. 14

Question ID : 264330116654

Status : Answered

Chosen Option : 1

Q.16 The curved surface area of a sphere is 1386 cm^2 . The volume of this sphere is:

- Ans
- 1. 2425.5 cm^3
 - 2. 4815 cm^3
 - 3. 4851 cm^3
 - 4. 1617 cm^3

Question ID : 26433087406

Status : Answered

Chosen Option : 3

Q.17 डिस्काउंट स्कीम के तहत 20% की छूट देने के बाद भी 10% का लाभ होता है। यह बताएं कि अंकित मूल्य क्रय मूल्य से कितने प्रतिशत अधिक है?

- Ans
- 1. 40%
 - 2. 35.2%
 - 3. 39%
 - 4. 37.5%

Question ID : 26433083042

Status : Answered

Chosen Option : 4

Q.18 एक मेज जिसका अंकित मूल्य रु. 300 है, को 20% और 10% की दो क्रमिक छूट पर बेचा जाता है। अगर इसके अलावा, नकद भुगतान पर 5% की छूट की पेशकश की जाती है, तो मेज के लिए नकद मूल्य _____ है।

- Ans
- 1. ₹240.25
 - 2. ₹205.20
 - 3. ₹210.25
 - 4. ₹216.50

Question ID : 26433082095

Status : Marked For Review

Chosen Option : 2

Q.19 एक चुनाव में दो उम्मीदवार A और B थे। निर्वाचन क्षेत्र में मतदाताओं की कुल संख्या 90000 थी और कुल मतों का 70% मतदान हुआ था। यदि मतदान में से 60% मत A के पक्ष में डाले गए, तो B को कितने मत प्राप्त हुए?

- Ans
- 1. 28600
 - 2. 28500
 - 3. 25200
 - 4. 28700

Question ID : 26433079770

Status : Answered

Chosen Option : 3

Q.20 पेट्रोल की कीमत Rs.92 प्रति लीटर से बढ़ाकर Rs.96.5 प्रति लीटर कर दी गई है। पेट्रोल की कीमत में कितने प्रतिशत की वृद्धि हुई है?

- Ans 1. 4.9%
2. 4.7%
3. 4.5%
4. 5.1%

Question ID : 26433071246

Status : Marked For Review

Chosen Option : 1

Section : Part-D-English

Q.1 Select the most appropriate option that can substitute the underlined segment in the given sentence.

The participants are rehearse their roles.

- Ans 1. has been rehearsing
2. are rehearsing
3. are rehearsed
4. have rehearse

Question ID : 26433091869

Status : Not Answered

Chosen Option : --

Q.2 Select the most appropriate synonym of the given word.

Sumptuous

- Ans 1. Humble
2. Mammoth
3. Lavish
4. Minuscule

Question ID : 26433073980

Status : Not Answered

Chosen Option : --

Q.3 Identify the correctly spelt sentence.

- Ans 1. My grandfather planted cauliflower in the garden.
2. My grandfather planted cauleflower in the garden.
3. My grandfather planted couliflower in the garden.
4. My grandfather planted kauliflower in the garden.

Question ID : 26433072831

Status : Not Answered

Chosen Option : --

Q.4 Select the most appropriate ANTONYM of the given word.

Anxious

- Ans
- 1. Considerate
 - 2. Stealthy
 - 3. Unconcerned
 - 4. Haughty

Question ID : 26433074380
Status : Not Answered
Chosen Option : --

Q.5 Select the most appropriate option to fill in the blank.

_____ men command respect.

- Ans
- 1. Wholly
 - 2. Holy
 - 3. Holly
 - 4. Holey

Question ID : 26433073934
Status : Not Answered
Chosen Option : --

Q.6 Select the most appropriate meaning of the given idiom.

After one's own heart

- Ans
- 1. Having likes and dislikes similar to one's own
 - 2. Having likes and dislikes dissimilar to one's own
 - 3. Having likes and dislikes far to one's own
 - 4. Having a face as one's own

Question ID : 26433072278
Status : Not Answered
Chosen Option : --

Q.7 Select the most appropriate homonym to fill in the blank.
He confessed about his affairs as the _____ made him sleepless.

- Ans
- 1. gild
 - 2. guilt
 - 3. gilled
 - 4. guild

Question ID : 26433058525
Status : Not Answered
Chosen Option : --

Q.8 Select the most appropriate ANTONYM of the italicised word in the given sentence.

It is *absurd* to argue about this.

- Ans
- 1. fundamental
 - 2. reasonable
 - 3. facetious
 - 4. amazing

Question ID : 26433096209
Status : Not Answered
Chosen Option : --

Q.9 Select the most appropriate idiom to substitute the underlined group of words in the given sentence.

Once in a year, the management of the institute surveys the whole situation.

- Ans
- 1. comes to the front
 - 2. take stock of
 - 3. makes a mark
 - 4. perplexed with

Question ID : 26433073878
Status : Not Answered
Chosen Option : --

Q.10 Select the most appropriate synonym of the underlined word.

Music is a therapy for everyone – plants, birds, animals and human-beings – to flourish and rejuvenate.

- Ans
- 1. fortify
 - 2. refreshen
 - 3. modify
 - 4. prosper

Question ID : 26433089100
Status : Not Answered
Chosen Option : --

Q.11 Select the most appropriate option to fill in the blank.

We would _____ to travel by train rather than bus due to the poor road conditions in the village.

- Ans
- 1. drop
 - 2. assure
 - 3. prefer
 - 4. make it

Question ID : 26433091877
Status : Not Answered
Chosen Option : --

Q.12 Select the correct pair of words for the blanks in the given sentence.

My cousin likes _____ root and _____ around the bush is one of the idioms in English.

- Ans
- 1. beat; beet
 - 2. beat; beat
 - 3. beet; beet
 - 4. beet; beat

Question ID : 26433060543

Status : Not Answered

Chosen Option : --

Q.13 Select the option with the correct spelling to replace the underlined word in the given sentence.

She hit him in a moment of abomination.

- Ans
- 1. aberration
 - 2. aberattion
 - 3. aberation
 - 4. abberation

Question ID : 26433094408

Status : Not Answered

Chosen Option : --

Q.14 Select the most appropriate option that can substitute the underlined segment in the given sentence.

The students were boring by the lecture delivered on environmental issues.

- Ans
- 1. The students were bores
 - 2. The students bored
 - 3. The students were barring
 - 4. The students were bored

Question ID : 26433091771

Status : Not Answered

Chosen Option : --

Q.15 The following sentence has been divided into parts. One of them may contain an error. Select the part that contains the error from the given options. If you don't find any error, mark 'No error' as your answer.

Our soldiers have being / making a clean sweep of the / sheep and poultry on the route.

- Ans
- 1. sheep and poultry on the route
 - 2. Our soldiers have being
 - 3. No error
 - 4. making a clean sweep of the

Question ID : 264330114510

Status : Not Answered

Chosen Option : --

Comprehension:

In the following passage, some words have been deleted. Read the passage carefully and select the most appropriate option to fill in each blank.

Children especially (1)_____ avoid such foods or try to reduce intake and instead, eat healthy food for (2)_____ growth. Schools can (3)_____ the quality of the food being sold in the canteens and also ensure that the children bring wholesome nutrition food (4)_____ home. (5)_____ should be appointed to check the calories content and food value of food served in the canteens and setting definite tiffin patterns.

SubQuestion No : 16

Q.16 Select the most appropriate option to fill in blank number 1.

Ans ✓ 1. should

✗ 2. will

✗ 3. shall

✗ 4. might

Question ID : 26433089046

Status : Not Answered

Chosen Option : --

Comprehension:

In the following passage, some words have been deleted. Read the passage carefully and select the most appropriate option to fill in each blank.

Children especially (1)_____ avoid such foods or try to reduce intake and instead, eat healthy food for (2)_____ growth. Schools can (3)_____ the quality of the food being sold in the canteens and also ensure that the children bring wholesome nutrition food (4)_____ home. (5)_____ should be appointed to check the calories content and food value of food served in the canteens and setting definite tiffin patterns.

SubQuestion No : 17

Q.17 Select the most appropriate option to fill in blank number 2.

Ans ✗ 1. awkward

✗ 2. elegant

✓ 3. proper

✗ 4. interesting

Question ID : 26433089047

Status : Not Answered

Chosen Option : --

Comprehension:

In the following passage, some words have been deleted. Read the passage carefully and select the most appropriate option to fill in each blank.

Children especially (1)_____ avoid such foods or try to reduce intake and instead, eat healthy food for (2)_____ growth. Schools can (3)_____ the quality of the food being sold in the canteens and also ensure that the children bring wholesome nutrition food (4)_____ home. (5)_____ should be appointed to check the calories content and food value of food served in the canteens and setting definite tiffin patterns.

SubQuestion No : 18

Q.18 Select the most appropriate option to fill in blank number 3.

- Ans** ✓ 1. monitor
 ✗ 2. proclaim
 ✗ 3. allow
 ✗ 4. show

Question ID : 26433089048
Status : Not Answered
Chosen Option : --

Comprehension:

In the following passage, some words have been deleted. Read the passage carefully and select the most appropriate option to fill in each blank.

Children especially (1)_____ avoid such foods or try to reduce intake and instead, eat healthy food for (2)_____ growth. Schools can (3)_____ the quality of the food being sold in the canteens and also ensure that the children bring wholesome nutrition food (4)_____ home. (5)_____ should be appointed to check the calories content and food value of food served in the canteens and setting definite tiffin patterns.

SubQuestion No : 19

Q.19 Select the most appropriate option to fill in blank number 4.

- Ans** ✓ 1. from
 ✗ 2. in
 ✗ 3. through
 ✗ 4. with

Question ID : 26433089049
Status : Not Answered
Chosen Option : --

Comprehension:

In the following passage, some words have been deleted. Read the passage carefully and select the most appropriate option to fill in each blank.

Children especially (1)_____ avoid such foods or try to reduce intake and instead, eat healthy food for (2)_____ growth. Schools can (3)_____ the quality of the food being sold in the canteens and also ensure that the children bring wholesome nutrition food (4)_____ home. (5)_____ should be appointed to check the calories content and food value of food served in the canteens and setting definite tiffin patterns.

SubQuestion No : 20

Q.20 Select the most appropriate option to fill in blank number 5.

- Ans
- 1. Opticians
 - 2. Technicians
 - 3. Dieticians
 - 4. Paediatricians

Question ID : 26433089050

Status : Not Answered

Chosen Option : --

Section : Part-D-Hindi

Q.1 'किसी पदार्थ या राज्य का दूसरे पदार्थ या राज्य में मिल जाना'- वाक्यांश के लिए एक शब्द होगा-

- Ans
- 1. एकीकरण
 - 2. विलय
 - 3. संगम
 - 4. सहयोग

Question ID : 26433065727

Status : Marked For Review

Chosen Option : 2

Q.2 वर्तनी की दृष्टि से दिए गए वाक्य के अशुद्ध भाग का चयन कीजिए-
पूर्ण स्वस्थ के लिए शुद्ध आहार-विहार आवश्यक है।

- Ans
- 1. आवश्यक है।
 - 2. आहार-विहार
 - 3. पूर्ण स्वस्थ
 - 4. के लिए शुद्ध

Question ID : 26433062885

Status : Marked For Review

Chosen Option : 3

Q.3 'वह धन जो आधिकारिक रूप से राज्य को मिलता हो' - वाक्यांश के लिए एक शब्द होगा

- Ans
- 1. राजस्व
 - 2. चुंगी
 - 3. कर
 - 4. राजधन

Question ID : 26433065729

Status : Answered

Chosen Option : 1

Q.4 निम्नलिखित वाक्यों में रिक्त स्थान की पूर्ति उचित एकार्थी शब्द-युग्म से करें-
साहसी व्यक्ति _____ हो जाता है। कछुआ _____-चर जीव है।

- Ans
- 1. जिसमें भय हो- जिसमें भय ना हो
 - 2. अभय-उभय
 - 3. भय सहित- केवल एक
 - 4. साथ साथ- ऊपर

Question ID : 26433091326

Status : Answered

Chosen Option : 2

Q.5 निम्न में से कौन-सा शब्द 'हाथ' शब्द का पर्यायवाची शब्द नहीं है?

- Ans
- 1. कर
 - 2. पाणि
 - 3. बाहु
 - 4. दन्त

Question ID : 26433067083

Status : Marked For Review

Chosen Option : 4

Q.6 निम्न में से कौन-सा शब्द 'कुबेर' शब्द का पर्यायवाची शब्द नहीं है?

- Ans
- 1. किन्नरपति
 - 2. धनपति
 - 3. यक्ष
 - 4. मुनि

Question ID : 26433067085

Status : Marked For Review

Chosen Option : 4

Q.7 'हिमालय की चोटियाँ तो _____ करती हैं।' वाक्य में रिक्त स्थान की पूर्ति उचित मुहावरे द्वारा कीजिए।

- Ans
- 1. राई का पहाड़ है
 - 2. गगनचुम्बी हैं
 - 3. आसमान से बातें करती हैं
 - 4. आसमान चूमती है

Question ID : 26433062610

Status : Answered

Chosen Option : 3

Q.8 वाक्य में रेखांकित शब्द को दिए गए शब्दों में से उचित शब्द से बदलें।
भरत को कैकयी की करनी पर करूणा हुई।

- Ans
- 1. पश्चात्ताप
 - 2. दया
 - 3. दुःख
 - 4. क्षोभ

Question ID : 26433062873

Status : Marked For Review

Chosen Option : 4

Q.9 निम्नलिखित विकल्पों में से किस एक वाक्य में संख्यावाचक विशेषण का उचित प्रयोग नहीं किया गया है?

- Ans
- 1. दुर्घटना में पहलवान को अधिक घाव हो गए हैं।
 - 2. हमारी बगिया में कुछ अधिक वृक्ष हो गए हैं।
 - 3. महात्मा गाँधी बहुत थोड़े कपड़े पहनते थे।
 - 4. नव्या के काले बाल हैं।

Question ID : 26433062966

Status : Answered

Chosen Option : 3

Q.10 'नव्या ने सुमति की बहुत भर्त्सना की'
उक्त वाक्य में प्रयुक्त 'भर्त्सना' के स्थान पर उसके विलोम शब्द का प्रयोग निम्न में से किस वाक्य में किया गया है?

- Ans
- 1. नव्या ने सुमति की बहुत बुराई की।
 - 2. नव्या ने सुमति की बहुत आलोचना की।
 - 3. नव्या ने सुमति की बहुत प्रशंसा की।
 - 4. नव्या ने सुमति की बहुत निंदा की।

Question ID : 26433067027

Status : Answered

Chosen Option : 3

Q.11 दिए गये वाक्य के अशुद्ध भाग का चयन कीजिए।
एक मेरे प्रिय मेधावी छात्र ने अच्छा नाम कमाया।

- Ans 1. एक मेरे
 2. छात्र ने अच्छा
 3. नाम कमाया।
 4. प्रिय मेधावी

Question ID : 26433085086
Status : Answered
Chosen Option : 1

Q.12 निम्नलिखित में से शुद्ध वाक्य का चयन कीजिए-

- Ans 1. आप कब आए?
 2. आप कब आयो?
 3. आप कब्बे आए?
 4. आप कब आया?

Question ID : 26433091312
Status : Answered
Chosen Option : 1

Q.13 निम्नलिखित विकल्पों में से कौन सा एक वाक्य प्रश्रवाचक सर्वनाम से संबंधित नहीं है?

- Ans 1. यह मूर्खता किसने की है?
 2. किसी ने जोर से चीत्कार की?
 3. संसार का संचालन और नियमन कौन करता है?
 4. यह गाड़ी किसकी है?

Question ID : 26433091239
Status : Answered
Chosen Option : 2

Q.14 निम्नलिखित वाक्यांश के लिये उपयुक्त सार्थक शब्द है-
बिना स्वार्थ के कार्य करने वाला

- Ans 1. निस्वार्थी
 2. सहायक
 3. हितेषी
 4. स्वार्थी

Question ID : 26433065765
Status : Marked For Review
Chosen Option : 1

Q.15 'लेने के देने पड़ना' मुहावरे का उचित अर्थ है-

- Ans
- 1. बहुत अधिक लाभ होना
 - 2. लाभ के बदले हानि
 - 3. व्यापार करना
 - 4. कुछ न देना

Question ID : 26433065879

Status : Answered

Chosen Option : 2

Comprehension:

निम्नलिखित गद्यांश में कुछ शब्दों को हटा दिया गया है। दिए गए विकल्पों की सहायता से रिक्त स्थानों की पूर्ति कीजिए। प्रत्येक संख्या के लिए सबसे उपयुक्त विकल्प का चयन करें।

आज का जीवन 1. _____ से भरा है। महत्त्वपूर्ण और अनिवार्य 2. _____ को पूरा करने में अत्यधिक संघर्ष करना पड़ता है। महँगाई बहुत 3. _____ गई है। इसके साथ ही बच्चों से लेकर 4. _____ तक की आवश्यकताएँ इतनी अधिक हो गई हैं कि परिवार के प्रत्येक सदस्य को धनोपार्जन के लिए घर से बाहर जाना पड़ता है। घर और अपनों के लिए समय ही नहीं होता। जीवन संघर्ष का 5. _____ बन गया है।

SubQuestion No : 16

Q.16 रिक्त स्थान 1 की पूर्ति के लिए सबसे उपयुक्त विकल्प का चयन कीजिए।

- Ans
- 1. कार्य
 - 2. सदस्यों
 - 3. भागदौड़
 - 4. खेल-कूद

Question ID : 264330111119

Status : Answered

Chosen Option : 3

Comprehension:

निम्नलिखित गद्यांश में कुछ शब्दों को हटा दिया गया है। दिए गए विकल्पों की सहायता से रिक्त स्थानों की पूर्ति कीजिए। प्रत्येक संख्या के लिए सबसे उपयुक्त विकल्प का चयन करें।

आज का जीवन 1. _____ से भरा है। महत्त्वपूर्ण और अनिवार्य 2. _____ को पूरा करने में अत्यधिक संघर्ष करना पड़ता है। महँगाई बहुत 3. _____ गई है। इसके साथ ही बच्चों से लेकर 4. _____ तक की आवश्यकताएँ इतनी अधिक हो गई हैं कि परिवार के प्रत्येक सदस्य को धनोपार्जन के लिए घर से बाहर जाना पड़ता है। घर और अपनों के लिए समय ही नहीं होता। जीवन संघर्ष का 5. _____ बन गया है।

SubQuestion No : 17

Q.17 रिक्त स्थान 2 की पूर्ति के लिए सबसे उपयुक्त विकल्प का चयन कीजिए।

- Ans
- 1. अवसर
 - 2. घटना
 - 3. भावना
 - 4. आवश्यकताओं

Question ID : 264330111120

Status : Answered

Chosen Option : 4

Comprehension:

निम्नलिखित गद्यांश में कुछ शब्दों को हटा दिया गया है। दिए गए विकल्पों की सहायता से रिक्त स्थानों की पूर्ति कीजिए। प्रत्येक संख्या के लिए सबसे उपयुक्त विकल्प का चयन करें।

आज का जीवन 1. _____ से भरा है। महत्वपूर्ण और अनिवार्य 2. _____ को पूरा करने में अत्यधिक संघर्ष करना पड़ता है। महँगाई बहुत 3. _____ गई है। इसके साथ ही बच्चों से लेकर 4. _____ तक की आवश्यकताएँ इतनी अधिक हो गई हैं कि परिवार के प्रत्येक सदस्य को धनोपार्जन के लिए घर से बाहर जाना पड़ता है। घर और अपनों के लिए समय ही नहीं होता। जीवन संघर्ष का 5. _____ बन गया है।

SubQuestion No : 18

Q.18 रिक्त स्थान 3 की पूर्ति के लिए सबसे उपयुक्त विकल्प का चयन कीजिए।

- Ans
- 1. कम
 - 2. बढ़
 - 3. बन
 - 4. नीचे

Question ID : 264330111121

Status : Answered

Chosen Option : 2

Comprehension:

निम्नलिखित गद्यांश में कुछ शब्दों को हटा दिया गया है। दिए गए विकल्पों की सहायता से रिक्त स्थानों की पूर्ति कीजिए। प्रत्येक संख्या के लिए सबसे उपयुक्त विकल्प का चयन करें।

आज का जीवन 1. _____ से भरा है। महत्वपूर्ण और अनिवार्य 2. _____ को पूरा करने में अत्यधिक संघर्ष करना पड़ता है। महँगाई बहुत 3. _____ गई है। इसके साथ ही बच्चों से लेकर 4. _____ तक की आवश्यकताएँ इतनी अधिक हो गई हैं कि परिवार के प्रत्येक सदस्य को धनोपार्जन के लिए घर से बाहर जाना पड़ता है। घर और अपनों के लिए समय ही नहीं होता। जीवन संघर्ष का 5. _____ बन गया है।

SubQuestion No : 19

Q.19 रिक्त स्थान 4 की पूर्ति के लिए सबसे उपयुक्त विकल्प का चयन कीजिए।

- Ans
- 1. बूढ़ों
 - 2. सरकार
 - 3. बाहर
 - 4. किसी की भी

Question ID : 264330111122

Status : Answered

Chosen Option : 1

Comprehension:

निम्नलिखित गद्यांश में कुछ शब्दों को हटा दिया गया है। दिए गए विकल्पों की सहायता से रिक्त स्थानों की पूर्ति कीजिए। प्रत्येक संख्या के लिए सबसे उपयुक्त विकल्प का चयन करें।

आज का जीवन 1. _____ से भरा है। महत्वपूर्ण और अनिवार्य 2. _____ को पूरा करने में अत्यधिक संघर्ष करना पड़ता है। महँगाई बहुत 3. _____ गई है। इसके साथ ही बच्चों से लेकर 4. _____ तक की आवश्यकताएँ इतनी अधिक हो गई हैं कि परिवार के प्रत्येक सदस्य को धनोपार्जन के लिए घर से बाहर जाना पड़ता है। घर और अपनों के लिए समय ही नहीं होता। जीवन संघर्ष का 5. _____ बन गया है।

SubQuestion No : 20

Q.20 रिक्त स्थान 5 की पूर्ति के लिए सबसे उपयुक्त विकल्प का चयन कीजिए।

- Ans
- 1. प्रकार
 - 2. सहायक
 - 3. पर्याय
 - 4. कारण

Question ID : 264330111123

Status : Marked For Review

Chosen Option : 3

KD Job Updates

Constable GD in CAPFs SSF Rifleman GD in Assam Rifles and Sepoy in NCB Examination 2022

Roll Number	KD Job Updates
Candidate Name	KD Job Updates
Venue Name	iON Digital Zone iDZ 1 Patliputra
Exam Date	10/01/2023
Exam Time	5:15 PM - 6:15 PM
Subject	Constable GD Examination 2022

Section : Part-A-General Intelligence and Reasoning

Q.1 तीन कथनों के बाद तीन निष्कर्ष दिए गए हैं। कथनों को सत्य मानते हुए, भले ही वे सामान्य रूप से ज्ञात तथ्यों से भिन्न प्रतीत होते हों, निर्णय करें कि कौन सा/से निष्कर्ष कथनों का तार्किक रूप से अनुसरण करता/करते है/हैं।

कथन:

कुछ कंप्यूटर फोन हैं।

सभी फोन कैलकुलेटर हैं।

सभी कैलकुलेटर आई-पैड हैं।

निष्कर्ष:

1. कुछ आई-पैड कंप्यूटर हैं।

2. सभी कैलकुलेटर फोन हैं।

3. कुछ आई-पैड फोन हैं।

Ans 1. सभी निष्कर्ष अनुसरण करते हैं।

2. केवल निष्कर्ष 1 और 3 अनुसरण करते हैं।

3. केवल निष्कर्ष 2 और 3 अनुसरण करते हैं।

4. केवल निष्कर्ष 1 और 2 अनुसरण करते हैं।

Question ID : 26433089424

Status : Answered

Chosen Option : 2

Q.2 किस विकल्प में निम्नलिखित शब्दों का वह क्रम दिया गया है, जिस क्रम में वे अंग्रेजी शब्दकोश में आते हैं?

1 inside

2 inertia

3 instruction

4 insight

5 individual

Ans 1. 5,1,2,3,4

2. 5,1,3,4,2

3. 5,3,1,2,4

4. 5,2,1,4,3

Question ID : 26433069299

Status : Answered

Chosen Option : 4

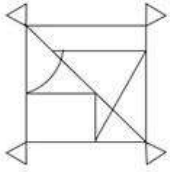
Q.3 दिए गए समीकरण को संतुलित करने के लिए किन दो चिह्नों को परस्पर बदलना होगा?
 $561 \div 11 \times 22 + 6 - 25 = 158$

- Ans
- 1. + और -
 - 2. \div और +
 - 3. + और \times
 - 4. \div और \times

Question ID : 26433082742
Status : Answered
Chosen Option : 3

Q.4 वह विकल्प चित्र चुनिए, जो प्रस्तुत चित्र में अंतर्निहित है। (घुमाना अनुमन्य नहीं

है)

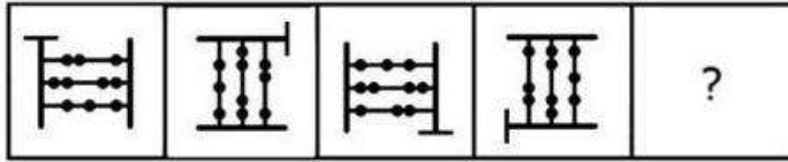


Ans

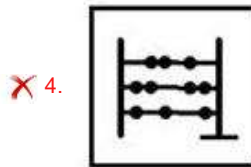
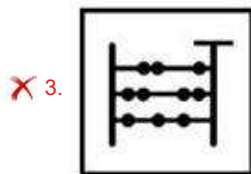
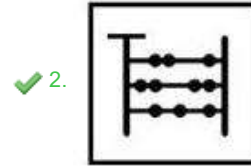
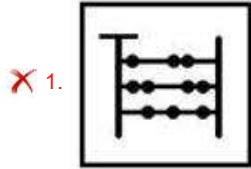
- 1.
- 2.
- 3.
- 4.

Question ID : 26433069343
Status : Answered
Chosen Option : 3

Q.5 उस आकृति का चयन कीजिए, जो नीचे दी गई श्रृंखला में आगे आएगी।



Ans



Question ID : 26433078968

Status : Answered

Chosen Option : 2

Q.6 नीचे दिए गए समीकरण को गणितीय रूप से सही बनाने के लिए किन दो चिन्हों को परस्पर बदलना चाहिए?

$$48 - 96 \times 4 \div 3 + 58 = 34$$

Ans ✓ 1. ÷ और ×

✗ 2. + और -

✗ 3. × और +

✗ 4. - और ÷

Question ID : 264330117499

Status : Answered

Chosen Option : 1

Q.7 उस विकल्प का चयन कीजिए जो पांचवें अक्षर-समूह से उसी प्रकार संबंधित है जिस प्रकार दूसरा अक्षर-समूह पहले अक्षर-समूह से संबंधित है और चौथा अक्षर-समूह तीसरे अक्षर-समूह से संबंधित है।
PENALTY : QFOBMUZ :: OFFENSE : PGGFOTF :: NERVOUS : ?

- Ans
- 1. VOUSNER
 - 2. RENVOUS
 - 3. OFSWPVT
 - 4. SUOVREN

Question ID : 26433069637

Status : Answered

Chosen Option : 3

Q.8 7 व्यक्ति - A, B, C, D, E, F, और G, एक वृत्ताकार मेज के परितः केंद्र की ओर मुख करके बैठे हैं। A, C के दाईं ओर ठीक बगल में, और D के बाईं ओर ठीक बगल में बैठा है। G, C के बाईं ओर ठीक बगल में, और F के दाईं ओर ठीक बगल में बैठा है। E, F के बाईं ओर ठीक बगल में, और B के दाईं ओर ठीक बगल में बैठा है। B, A के दाईं ओर दूसरे स्थान पर बैठा है। इनमें से कौन A और B के ठीक बगल में बैठा है?

- Ans
- 1. E
 - 2. F
 - 3. D
 - 4. G

Question ID : 26433074607

Status : Answered

Chosen Option : 3

Q.9 एक निश्चित कूट भाषा में, 'TABLE' को '£@6#%' के रूप में लिखा जाता है, 'LARK' को '#@28' के रूप में लिखा जाता है और 'BUCKET' को '6\$+8%£' के रूप में लिखा जाता है। उसी भाषा में 'CLARET' को कैसे लिखा जाएगा?

- Ans
- 1. +#@26%\$
 - 2. 8#2%6+
 - 3. +#@2%£
 - 4. 8#@6%£

Question ID : 26433069608

Status : Answered

Chosen Option : 3

Q.10 A @ B का अर्थ है 'A, B की बहन है'।
A & B का अर्थ है 'A, B का भाई है'।
A # B का अर्थ है 'A, B की पत्नी है'।
A ^ B का अर्थ है 'A, B की माता है'।
A + B का अर्थ है 'A, B के पिता हैं'।
यदि X + T ^ M # G & C ^ K @ H ^ Q है, तो निम्नलिखित में से कौन-सा कथन सही नहीं है?

- Ans
- 1. X, M के नाना हैं।
 - 2. C, H की माता है।
 - 3. G, K के पिता हैं।
 - 4. G, T का दामाद है।

Question ID : 26433068952

Status : Answered

Chosen Option : 3

Q.11 निम्न में से कौन सी संख्या दी गई श्रृंखला में प्रश्नचिह्न (?) के स्थान पर आएगी?
115, 102, 107, 94, 99, ?

- Ans 1. 86
 2. 96
 3. 84
 4. 92


Question ID : 26433076749
Status : Answered
Chosen Option : 1



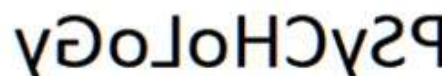
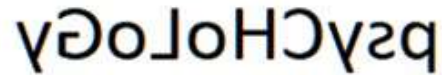
Q.12 उस विकल्प का चयन करें, जो पाँचवीं संख्या से उसी प्रकार संबंधित है, जिस प्रकार दूसरी संख्या, पहली संख्या से संबंधित है और चौथी संख्या, तीसरी संख्या से संबंधित है।
48 : 5 :: 30 : 3 :: 57 : ?

- Ans 1. 4
 2. 6
 3. 2
 4. 7

Question ID : 26433069418
Status : Answered
Chosen Option : 2

Q.13 दी गई आकृति के सही दर्पण प्रतिबिम्ब का चयन करें जब दर्पण को MN पर रखा जाए जैसा कि नीचे दर्शाया गया है।

PsyCHoLoGy 

- Ans 1. 
 2. 
 3. 
 4. 

Question ID : 26433085562
Status : Answered
Chosen Option : 2

Q.14 सात व्यक्ति A, B, C, D, E, F और G एक सीधी पंक्ति में उत्तर की ओर मुख करके बैठे हैं। A पंक्ति के ठीक मध्य में बैठा है। G और E पंक्ति के सिरो पर बैठे हैं। B, A के बाईं ओर ठीक बगल में बैठा है। F, G के दाईं ओर ठीक बगल में बैठा है। D, E के बाईं ओर ठीक बगल में बैठा है। C, E के बाईं ओर दूसरे स्थान पर बैठा है। G और B के बीच में कौन बैठा है?

- Ans
- 1. D
 - 2. F
 - 3. C
 - 4. A

Question ID : 26433074622
Status : Answered
Chosen Option : 2

Q.15 कौन-सा अक्षर-समूह दी गई श्रृंखला में प्रश्नचिह्न (?) के स्थान पर आकर श्रृंखला को पूर्ण करेगा?
CTUJ, EVWL, ?, IZAP, KBCR

- Ans
- 1. FXYO
 - 2. GXYN
 - 3. GXYO
 - 4. FXYN

Question ID : 26433067940
Status : Answered
Chosen Option : 2

Q.16 निम्नलिखित में से कौन-सी संख्या दी गई श्रृंखला में प्रश्नचिह्न (?) के स्थान पर आएगी?
23, 27, 35, ?, 63, 83, 107

- Ans
- 1. 55
 - 2. 39
 - 3. 43
 - 4. 47

Question ID : 26433068090
Status : Answered
Chosen Option : 4

Q.17 उस विकल्प का चयन कीजिए जो तीसरे शब्द से उसी प्रकार संबंधित है जिस प्रकार दूसरा शब्द पहले शब्द से संबंधित है। (शब्दों को अर्थपूर्ण शब्दों के रूप में मानना है और उन्हें शब्द में अक्षरों/व्यंजनों/स्वरों की संख्या के आधार पर एक-दूसरे से संबंधित नहीं करना है।)
मेघालय : शिलांग :: केरल : ?

- Ans
- 1. बंगलुरु
 - 2. तिरुवनंतपुरम
 - 3. चेन्नई
 - 4. पणजी

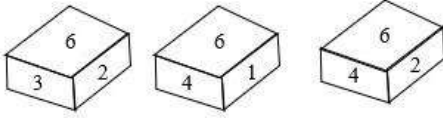
Question ID : 26433067371
Status : Answered
Chosen Option : 2

Q.18 निम्नलिखित में से कौन-सा पद दी गई श्रृंखला में प्रश्न-चिह्न (?) के स्थान पर आएगा?
MQEV, ?, QOIT, SNKS, UMMR

- Ans 1. OPHU
 2. PPHV
 3. NPGU
 4. OPGU

Question ID : 26433068308
Status : Answered
Chosen Option : 4

Q.19 एक ही पासे की तीन अलग-अलग स्थितियों को दर्शाया गया है। '6' दर्शाने वाले फलक के विपरीत फलक पर मौजूद संख्या ज्ञात कीजिए।



- Ans 1. 3
 2. 5
 3. 1
 4. 4

Question ID : 26433090066
Status : Answered
Chosen Option : 2

Q.20 एक निश्चित कूट भाषा में 'STATION' को 'UVVVGMP' लिखा जाता है और 'TRIUMPH' को 'VTGSORJ' लिखा जाता है। उसी भाषा में 'HOLIDAY' को किस प्रकार लिखा जाएगा?

- Ans 1. JMNGFCW
 2. JMNGFXW
 3. JMNGFYA
 4. JMNGBXW

Question ID : 26433081759
Status : Answered
Chosen Option : 3

Section : Part-B-General Knowledge and General awareness

Q.1 _____ के लिए रासायनिक सूत्र H_2SO_4 है।

- Ans 1. मुरिएटिक एसिड
 2. हरा विट्रिओल
 3. नीला विट्रिओल
 4. आयल ऑफ़ विट्रिओल

Question ID : 264330115165
Status : Answered
Chosen Option : 1

Q.2 बजट दस्तावेज कुल व्यय को _____ में वर्गीकृत करते हैं।

- Ans
- 1. माल और आय
 - 2. आंशिक और पूर्ण व्यय
 - 3. सेवाओं और गैर-माल सेवाओं
 - 4. योजनागत और गैर-योजनागत व्यय

Question ID : 264330115286

Status : Not Attempted and Marked For Review

Chosen Option : --

Q.3 पोषण की उस प्रणाली में जिसमें जीव किसी मृत एवं विघटित जैविक पदार्थों से पोशक तत्व प्राप्त करते हैं उसे _____ पोषण प्रणाली कहा जाता है।

- Ans
- 1. विश्वपोशी
 - 2. स्वपोशी
 - 3. मृतजीवी
 - 4. एकलपोशी

Question ID : 264330115254

Status : Answered

Chosen Option : 3

Q.4 'मोहिनीअट्टम की जननी' _____ पर आधारित एक डॉक्यु-फिक्शन है।

- Ans
- 1. शोभना नारायण
 - 2. कलामंडलम कल्याणिकुट्टी अम्मा
 - 3. महबूब सुभानी
 - 4. अनुराधा पाण्डेय

Question ID : 264330115878

Status : Answered

Chosen Option : 2

Q.5 निम्नलिखित में से किस राज्य में मकर संक्रांति को पेड्डा पांडुगा के रूप में मनाया जाता है?

- Ans
- 1. तमिलनाडु
 - 2. आंध्र प्रदेश
 - 3. केरल
 - 4. कर्नाटक

Question ID : 264330115106

Status : Answered

Chosen Option : 3

Q.6 दिए गए उद्योगों में, चूना पत्थर _____ का कच्चा माल है।

- Ans
- 1. प्लास्टिक उद्योग
 - 2. फर्नीचर उद्योग
 - 3. सीमेंट उद्योग
 - 4. इलेक्ट्रॉनिक उद्योग

Question ID : 264330115394
Status : Answered
Chosen Option : 3

Q.7 विषम का चयन करें। [संकेत: रेशेदार फसलें (fiber crops)]

- Ans
- 1. कपास
 - 2. रबड़
 - 3. जूट
 - 4. सन (हेम्प)

Question ID : 264330115533
Status : Answered
Chosen Option : 2

Q.8 भारतीय संविधान में 'राष्ट्रपति के चुनाव की विधि' को _____ संविधान से लिया गया है।

- Ans
- 1. जर्मन
 - 2. दक्षिण अफ्रीकी
 - 3. संयुक्त राज्य अमेरिका
 - 4. आयरिश

Question ID : 26433064813
Status : Answered
Chosen Option : 3

Q.9 भारत में, किस वर्ष में राष्ट्रीय काम के बदले भोजन कार्यक्रम (National Food for Work Programme) शुरू किया गया था?

- Ans
- 1. 2005
 - 2. 2004
 - 3. 2003
 - 4. 2000

Question ID : 264330116078
Status : Answered
Chosen Option : 1

Q.10 किस देश ने 2019 में एशियाई एथलेटिक्स चैंपियनशिप की मेजबानी की?

- Ans
- 1. जॉर्डन
 - 2. फिलीपींस
 - 3. कतर
 - 4. दक्षिण कोरिया

Question ID : 264330115925
Status : Answered
Chosen Option : 2

Q.11 भारत के संविधान का निम्नलिखित में से कौन सा अनुच्छेद, राज्य कार्यकारिणी से संबंधित है?

- Ans
- 1. अनुच्छेद 123-132
 - 2. अनुच्छेद 134-143
 - 3. अनुच्छेद 153-167
 - 4. अनुच्छेद 145-150

Question ID : 26433086852
Status : Not Attempted and
Marked For Review
Chosen Option : --

Q.12 मोहिनीअट्टम निम्नलिखित में से किस राज्य से संबंधित एक एकल शास्त्रीय नृत्य है?

- Ans
- 1. बिहार
 - 2. कर्नाटक
 - 3. उत्तर प्रदेश
 - 4. केरल

Question ID : 26433071658
Status : Answered
Chosen Option : 4

Q.13 भारत सरकार के किस केंद्रीय मंत्री ने मार्च में टेक कॉन्क्लेव 2022 का उद्घाटन किया?

- Ans
- 1. राजनाथ सिंह
 - 2. अश्विनी वैष्णव
 - 3. स्मृति ईरानी
 - 4. अमित शाह

Question ID : 264330114930
Status : Not Attempted and
Marked For Review
Chosen Option : --

Q.14 किस भारतीय मूल के सिख को बाढ़, झाड़ियों में लगी आग, सूखे और कोविड-19 से प्रभावित समुदाय का समर्थन करने के लिए न्यू साउथ वेल्स ऑस्ट्रेलियन ऑफ द ईयर अवार्ड 2023 दिया गया है?

- Ans
- 1. कमलजीत अरोड़ा
 - 2. जतिंदर सिंह
 - 3. अमर सिंह
 - 4. नवजीत कौर बराड़

Question ID : 264330114989
Status : Not Answered
Chosen Option : --

Q.15 निम्नलिखित में से कौन-सी खेड़ा के किसान आंदोलन की मुख्य मांग थी?

- Ans
- 1. निःशुल्क सिंचाई की सुविधा प्रदान की जाए
 - 2. राजस्व संग्रह में ढील दी जाए
 - 3. बागान प्रणाली को समाप्त किया जाए
 - 4. संकर बीज उपलब्ध कराए जाए

Question ID : 26433089883
Status : Answered
Chosen Option : 1

Q.16 क्रिकेट विश्व कप 1983 के फाइनल मैच में निम्नलिखित में से किस खिलाड़ी ने सर्वाधिक रन बनाए थे?

- Ans
- 1. सुनील गावस्कर
 - 2. कृष्णमाचारी श्रीकांत
 - 3. मोहिंदर अमरनाथ
 - 4. कपिल देव

Question ID : 264330116295
Status : Answered
Chosen Option : 2

Q.17 रेशम बनाने की तकनीक का आविष्कार सबसे पहले लगभग _____ वर्ष पहले चीन में हुआ था।

- Ans
- 1. 7000
 - 2. 30000
 - 3. 15000
 - 4. 20000

Question ID : 26433090573
Status : Not Answered
Chosen Option : --

Q.18 भारत के सर्वोच्च न्यायालय ने _____ में एक निर्णय पारित किया जिसमें उसने तीन तलाक की प्रथा को असंवैधानिक घोषित किया और एसा करना निरस्त किया।

Ans 1. 2017

2. 2014

3. 2013

4. 2018

Question ID : 264330116224
Status : Not Answered
Chosen Option : --

Q.19 स्वतंत्रता के समय भारत की लगभग _____ प्रतिशत जनसंख्या कृषि पर निर्भर थी।

Ans 1. 50

2. 100

3. 75

4. 90

Question ID : 264330116158
Status : Answered
Chosen Option : 3

Q.20 भारत में, अक्टूबर-नवंबर के दौरान, सूर्य के दक्षिण की ओर आभासी गति के कारण _____ उत्तरी मैदानों के ऊपर शिथिल हो जाता है।

Ans 1. मानसून गर्त (Monsoon trough)

2. ली गर्त (Lee trough)

3. व्युत्क्रमित गर्त (Inverted trough)

4. उच्चतल गर्त (Upper level trough)

Question ID : 264330115988
Status : Answered
Chosen Option : 4

Section : Part-C-Elementary Mathematics

Q.1 एक आदमी एक खिलौना कार ₹135 में खरीदता है और उसे ₹150 में बेचता है, उसका लाभ प्रतिशत ज्ञात कीजिए।

Ans 1. 11.11%

2. 11%

3. 10.10%

4. 10%

Question ID : 26433076173
Status : Answered
Chosen Option : 1

Q.2 Rs.1,875 की राशि 4% की वार्षिक दर से एक निश्चित समय में बढ़कर Rs.2,028 हो गई। यदि ब्याज वार्षिक रूप से चक्रवृद्धि है, तो समयावधि क्या होगी?

- Ans 1. 2 वर्ष
 2. 3 वर्ष
 3. 3.5 वर्ष
 4. 2.5 वर्ष

Question ID : 26433075677
Status : Answered
Chosen Option : 1

Q.3 एक वाशिंग मशीन का अंकित मूल्य Rs.23,500 है और दुकानदार ने इसे Rs.20,915 में बेचा। दुकानदार द्वारा दी जाने वाली छूट का प्रतिशत कितना है?

- Ans 1. 10%
 2. 9%
 3. 11%
 4. 12%

Question ID : 26433075189
Status : Answered
Chosen Option : 3

Q.4 32 और 40 का लघुत्तम समापवर्त्य X के वर्ग से 9 कम के बराबर है। X का धनात्मक मान ज्ञात करें।

- Ans 1. 14
 2. 12
 3. 11
 4. 13

Question ID : 264330116647
Status : Answered
Chosen Option : 4

Q.5 एक शहर की वर्तमान जनसंख्या 125000 है। यदि जनसंख्या 2% प्रति वर्ष की दर से बढ़ती है, तो 3 वर्ष बाद शहर की जनसंख्या क्या होगी?

- Ans 1. 132651
 2. 130896
 3. 133512
 4. 132165

Question ID : 26433080338
Status : Answered
Chosen Option : 1

Q.6 अमन, राम और कपिल एक कार्य को क्रमशः 68 दिन, 51 दिन और 17 दिन में पूरा कर सकते हैं। यदि वे बारी-बारी से एक एक दिन इस प्रकार कार्य करते हैं कि अमन पहले दिन कार्य करता है, राम दूसरे दिन कार्य करता है, कपिल तीसरे दिन कार्य करता है और फिर अमन चौथे दिन कार्य करता है और यह क्रम इसी प्रकार जारी रहता है, तो 50% कार्य होने में लगभग कितने दिन लगेंगे?

- Ans 1. 16 दिन
 2. 18 दिन
 3. 19 दिन
 4. 15 दिन

Question ID : 264330116908
Status : Answered
Chosen Option : 1

Q.7 अंकित मूल्य पर 10% की छूट देने पर एक विक्रेता 5% का लाभ अर्जित करता है। यदि अंकित मूल्य में 5% की वृद्धि की जाती है और प्रत्येक 5% की दो क्रमिक छूटें दी जाती हैं, तो विक्रेता को कितने प्रतिशत लाभ होता है?

- Ans 1. 11.5%
 2. 10%
 3. 10.5%
 4. 11%

Question ID : 26433085450
Status : Not Attempted and Marked For Review
Chosen Option : --

Q.8 एक डीलर अपने माल को 16% की हानि पर बेचने का दावा करता है, लेकिन वह एक kg वजन के स्थान पर 750 gm ही वजन करता है। उसका कुल लाभ प्रतिशत ज्ञात कीजिए।

- Ans 1. 15 प्रतिशत
 2. 11 प्रतिशत
 3. 12 प्रतिशत
 4. 14 प्रतिशत

Question ID : 26433080170
Status : Answered
Chosen Option : 3

Q.9 एक शंकु का वक्र पृष्ठीय क्षेत्रफल $4,455 \text{ cm}^2$ है और इसका व्यास 105 cm है। इसकी तिर्यक ऊंचाई ज्ञात करें। $\pi = \frac{22}{7}$ लें

- Ans 1. 25 cm
 2. 21 cm
 3. 23 cm
 4. 27 cm

Question ID : 26433076253
Status : Answered
Chosen Option : 4

Q.10 1000 m की एक रेखिक दौड़ में, सलोनी ने श्वेता को 100 m से हराया, जबकि श्वेता ने सोनम को 150 m से हराया। उसी दौड़ में सलोनी ने सोनम को कितने मीटर से हराया?

- Ans 1. 235 m
 2. 250 m
 3. 220 m
 4. 225 m

Question ID : 26433080378
Status : Answered
Chosen Option : 2

Q.11 एक दशक में एक कस्बे की जनसंख्या 145000 से बढ़कर 200000 हो गई। प्रति वर्ष जनसंख्या की साधारण वृद्धि दर प्रतिशत क्या होगी?

- Ans 1. 3.793 प्रतिशत
 2. 5.789 प्रतिशत
 3. 4.856 प्रतिशत
 4. 2.165 प्रतिशत

Question ID : 264330116828
Status : Answered
Chosen Option : 1

Q.12 एक लड़का घर से कॉलेज तक 35 km/h की चाल से जाता है और 3 km/h की चाल से वापस आता है। यदि पूरी यात्रा में 6 घंटे 30 मिनट लगते हैं, तो घर से कॉलेज की दूरी (दशमलव के बाद दो स्थानों तक सही) _____ है।

- Ans 1. 17.25 km
 2. 17.96 km
 3. 18.01 km
 4. 17.58 km

Question ID : 26433081594
Status : Answered
Chosen Option : 2

Q.13 37, 55 का कितना प्रतिशत है? (दशमलव के दो स्थानों तक सही)

- Ans 1. 69.41%
 2. 62.77%
 3. 64.91%
 4. 67.27%

Question ID : 26433080298
Status : Answered
Chosen Option : 4

Q.14 दो संख्याएँ 3 : 8 के अनुपात में हैं। यदि प्रत्येक संख्या में 8 जोड़ दिया जाए, तो अनुपात 1: 2 हो जाता है। यदि प्रत्येक संख्या में से 4 घटा दिया जाए, तो अनुपात क्या हो जाएगा?

- Ans
- 1. 8 : 3
 - 2. 2 : 7
 - 3. 3 : 8
 - 4. 7 : 2

Question ID : 26433087371
Status : Answered
Chosen Option : 2

Q.15 एक किसान के पास 10 तोते और 40 घोड़े हैं। प्रति जानवर पैरों की औसत संख्या ज्ञात करें।

- Ans
- 1. 3.2
 - 2. 3.6
 - 3. 3.8
 - 4. 3.4

Question ID : 264330116693
Status : Answered
Chosen Option : 2

Q.16 एक घंटे में, A सात कुर्सियों को पेंट कर सकता है, जबकि B एक घंटे में चार कुर्सियों को पेंट कर सकता है। निर्धारित कीजिए कि 55 कुर्सियों को एक साथ मिलकर पेंट करने पर उन्हें कितना समय लगेगा।

- Ans
- 1. 5 घंटे
 - 2. 7 घंटे
 - 3. 4 घंटे
 - 4. 6 घंटे

Question ID : 26433074311
Status : Answered
Chosen Option : 1

Q.17 एक बल्लेबाज 15वीं पारी में 97 रन बनाता है, जिससे उसके रनों का औसत 5 बढ़ जाता है। 15वीं पारी के बाद उसके रनों का औसत ज्ञात कीजिए।

- Ans
- 1. 92
 - 2. 27
 - 3. 15
 - 4. 82

Question ID : 26433082642
Status : Not Answered
Chosen Option : --

Q.18 0.64 और 0.81 के बीच का मध्यानुपाती ज्ञात करें।

Ans 1. 0.72

2. 0.70

3. 0.68

4. 0.66

Question ID : 26433080113

Status : Answered

Chosen Option : 1

Q.19 चार अभाज्य संख्याएँ आरोही क्रम में व्यवस्थित हैं। प्रथम तीन संख्याओं का गुणनफल 255 और अंतिम तीन संख्याओं का गुणनफल 1955 है। सबसे बड़ी अभाज्य संख्या _____ है।

Ans 1. 29

2. 17

3. 23

4. 31

Question ID : 26433081471

Status : Answered

Chosen Option : 2

Q.20 ऊंचाई 20 सेमी और आधार त्रिज्या 14 सेमी वाले बेलन के आयतन (सेमी³ में) की गणना कीजिए।

Ans 1. 13,230 सेमी³

2. 12,200 सेमी³

3. 12,320 सेमी³

4. 13,300 सेमी³

Question ID : 26433075821

Status : Answered

Chosen Option : 3

Section : Part-D-English

Q.1 The sentence given below has one misspelt word. Spot the INCORRECTLY spelt word and select its correct spelling.

He wishes to be an orthopidic surgeon.

Ans 1. Orthopadic

2. Ortopeedic

3. Orthopaedic

4. Orthapedic

Question ID : 26433073557

Status : Not Answered

Chosen Option : --

Q.2 Select the most appropriate synonym for the underlined word in the given sentence.

The pearls produced in that oyster farm have lost all their lustre.

- Ans
- 1. shine
 - 2. gloom
 - 3. front
 - 4. lustful

Question ID : 26433073753
Status : Not Answered
Chosen Option : --

Q.3 Select the most appropriate synonym of the word given in brackets to fill in the blank.

Jack met with a/an _____ (deadly) accident.

- Ans
- 1. deaden
 - 2. vital
 - 3. explicit
 - 4. fatal

Question ID : 26433089076
Status : Not Answered
Chosen Option : --

Q.4 Select the most appropriate option to fill in the blank.

The Conjuring is not a movie for the _____ of heart.

- Ans
- 1. paint
 - 2. emotional
 - 3. strong
 - 4. faint

Question ID : 26433084604
Status : Not Answered
Chosen Option : --

Q.5 Select the INCORRECTLY spelt word.

- Ans
- 1. Task
 - 2. Spead
 - 3. Salt
 - 4. Brand

Question ID : 26433073495
Status : Not Answered
Chosen Option : --

Q.6 Select the most appropriate option that can substitute the underlined segment in the given sentence.

I was delight in the moment I saw her.

- Ans
- 1. was delighting
 - 2. was delighted
 - 3. had delightful
 - 4. delighted at

Question ID : 26433088167
Status : Not Answered
Chosen Option : --

Q.7 Select the most appropriate ANTONYM of the given word.

Solitary

- Ans
- 1. Loan
 - 2. Gregarious
 - 3. Indifferent
 - 4. Lone

Question ID : 26433073867
Status : Not Answered
Chosen Option : --

Q.8 Select the most appropriate ANTONYM of the given word.

Captivity

- Ans
- 1. Persistent
 - 2. Liberty
 - 3. Accused
 - 4. Haemorrhage

Question ID : 26433089114
Status : Not Answered
Chosen Option : --

Q.9 Select the most appropriate homonym to fill in the blank.

What _____ of a movie is this?

- Ans
- 1. kind
 - 2. con
 - 3. keen
 - 4. can

Question ID : 26433088791
Status : Not Answered
Chosen Option : --

Q.10 The following sentence has been split into four segments. Identify the segment that contains a grammatical error.

My aunt Geeta, / is knowing / my friend Rudransh / very well.

- Ans
- 1. is knowing
 - 2. My aunt Geeta
 - 3. very well
 - 4. my friend Rudransh

Question ID : 26433086457
Status : Not Answered
Chosen Option : --

Q.11 Select the most appropriate synonym of the underlined word in the given sentence.

The country has an abundant supply of minerals.

- Ans
- 1. Ample
 - 2. Natural
 - 3. Sparse
 - 4. Artificial

Question ID : 26433072061
Status : Not Answered
Chosen Option : --

Q.12 Select the most appropriate meaning of the given idiom.

The whys and wherefores

- Ans
- 1. Underlying reason
 - 2. Summary
 - 3. Interrogation
 - 4. Minute observation

Question ID : 26433072433
Status : Not Answered
Chosen Option : --

Q.13 Select the most appropriate option to fill in the blank.

The person in ragged clothes sleeping on the street is a _____ man.

- Ans
- 1. learned
 - 2. wealthy
 - 3. cunning
 - 4. homeless

Question ID : 26433085600
Status : Not Answered
Chosen Option : --

Q.14 Select the most appropriate ANTONYM of the given word.

Acceptance

- Ans 1. Allocation
 2. Stoppage
 3. Rejection
 4. Trouble

Question ID : 26433073797

Status : Not Answered

Chosen Option : --

Q.15 Select the most appropriate option that can substitute the underlined segment in the given sentence.

As of now, they have finished the construction of the ground floor.

- Ans 1. construction of the ground flounder
 2. construction of the ground flower
 3. construction of the ground floor
 4. construction of the ground flavor

Question ID : 264330100991

Status : Not Answered

Chosen Option : --

Comprehension:

In the following passage, some words have been deleted. Read the passage carefully and select the most appropriate option to fill in each blank.

The blockade of the national highways leading to the Manipur valley, called by the United Naga Council (UNC), has been in place since 1 November. This has severely affected life in the State, with shortages and (1)_____ costs of essential supplies such as fuel and food, even as demonetisation has (2)_____ problems. Blockades like this are not new to Manipur. In 2011, there was initially a hundred-day- plus blockade enforced by Kuki-led groups, and countered later by Naga groups, which together had a (3)_____ effect on life in Manipur. This time the blockade is in place to oppose the creation of new districts by the Okram Ibobi Singh government. On 9 December it issued a (4)_____ notification for the creation of seven new districts by bifurcating seven (of a total of nine) districts. This decision had as much to do with long-pending demands — in particular, for a new Kuki-majority district to be carved out of the larger Senapati hill district — as with easing administrative access to (5)_____ areas from the district headquarters.

SubQuestion No : 16

Q.16 Select the most appropriate option to fill in blank number 1.

- Ans 1. varying
 2. escalating
 3. diminishing
 4. upfront

Question ID : 26433088621

Status : Not Answered

Chosen Option : --

Comprehension:

In the following passage, some words have been deleted. Read the passage carefully and select the most appropriate option to fill in each blank.

The blockade of the national highways leading to the Manipur valley, called by the United Naga Council (UNC), has been in place since 1 November. This has severely affected life in the State, with shortages and (1)_____ costs of essential supplies such as fuel and food, even as demonetisation has (2)_____ problems. Blockades like this are not new to Manipur. In 2011, there was initially a hundred-day- plus blockade enforced by Kuki-led groups, and countered later by Naga groups, which together had a (3)_____ effect on life in Manipur. This time the blockade is in place to oppose the creation of new districts by the Okram Ibobi Singh government. On 9 December it issued a (4) _____ notification for the creation of seven new districts by bifurcating seven (of a total of nine) districts. This decision had as much to do with long-pending demands — in particular, for a new Kuki-majority district to be carved out of the larger Senapati hill district — as with easing administrative access to (5)_____ areas from the district headquarters.

SubQuestion No : 17

Q.17 Select the most appropriate option to fill in blank number 2.

- Ans 1. exacerbated
 2. exceed
 3. pacified
 4. vindicated

Question ID : 26433088622

Status : Not Answered

Chosen Option : --

Comprehension:

In the following passage, some words have been deleted. Read the passage carefully and select the most appropriate option to fill in each blank.

The blockade of the national highways leading to the Manipur valley, called by the United Naga Council (UNC), has been in place since 1 November. This has severely affected life in the State, with shortages and (1)_____ costs of essential supplies such as fuel and food, even as demonetisation has (2)_____ problems. Blockades like this are not new to Manipur. In 2011, there was initially a hundred-day- plus blockade enforced by Kuki-led groups, and countered later by Naga groups, which together had a (3)_____ effect on life in Manipur. This time the blockade is in place to oppose the creation of new districts by the Okram Ibobi Singh government. On 9 December it issued a (4) _____ notification for the creation of seven new districts by bifurcating seven (of a total of nine) districts. This decision had as much to do with long-pending demands — in particular, for a new Kuki-majority district to be carved out of the larger Senapati hill district — as with easing administrative access to (5)_____ areas from the district headquarters.

SubQuestion No : 18

Q.18 Select the most appropriate option to fill in blank number 3.

- Ans 1. counter
 2. debilitating
 3. befitting
 4. acting

Question ID : 26433088623

Status : Not Answered

Chosen Option : --

Comprehension:

In the following passage, some words have been deleted. Read the passage carefully and select the most appropriate option to fill in each blank.

The blockade of the national highways leading to the Manipur valley, called by the United Naga Council (UNC), has been in place since 1 November. This has severely affected life in the State, with shortages and (1)_____ costs of essential supplies such as fuel and food, even as demonetisation has (2)_____ problems. Blockades like this are not new to Manipur. In 2011, there was initially a hundred-day- plus blockade enforced by Kuki-led groups, and countered later by Naga groups, which together had a (3)_____ effect on life in Manipur. This time the blockade is in place to oppose the creation of new districts by the Okram Ibobi Singh government. On 9 December it issued a (4) _____ notification for the creation of seven new districts by bifurcating seven (of a total of nine) districts. This decision had as much to do with long-pending demands — in particular, for a new Kuki-majority district to be carved out of the larger Senapati hill district — as with easing administrative access to (5)_____ areas from the district headquarters.

SubQuestion No : 19

Q.19 Select the most appropriate option to fill in blank number 4.

- Ans
- 1. lively
 - 2. live
 - 3. gazette
 - 4. detail

Question ID : 26433088624

Status : Not Answered

Chosen Option : --

Comprehension:

In the following passage, some words have been deleted. Read the passage carefully and select the most appropriate option to fill in each blank.

The blockade of the national highways leading to the Manipur valley, called by the United Naga Council (UNC), has been in place since 1 November. This has severely affected life in the State, with shortages and (1)_____ costs of essential supplies such as fuel and food, even as demonetisation has (2)_____ problems. Blockades like this are not new to Manipur. In 2011, there was initially a hundred-day- plus blockade enforced by Kuki-led groups, and countered later by Naga groups, which together had a (3)_____ effect on life in Manipur. This time the blockade is in place to oppose the creation of new districts by the Okram Ibobi Singh government. On 9 December it issued a (4) _____ notification for the creation of seven new districts by bifurcating seven (of a total of nine) districts. This decision had as much to do with long-pending demands — in particular, for a new Kuki-majority district to be carved out of the larger Senapati hill district — as with easing administrative access to (5)_____ areas from the district headquarters.

SubQuestion No : 20

Q.20 Select the most appropriate option to fill in blank number 5.

- Ans
- 1. outskirts
 - 2. offshore
 - 3. secluded
 - 4. far-flung

Question ID : 26433088625

Status : Not Answered

Chosen Option : --

Q.1 'अनुसंधान _____'
उपर्युक्त वाक्य में रिक्त स्थान के लिए उपयुक्त वाक्यांश का चयन विकल्पों में से कीजिए।

- Ans
- 1. द्वारा खोज का अर्थ होता है।
 - 2. खोज का अनर्थ होता है।
 - 3. का अर्थ खोज होता है।
 - 4. की अर्थ में खोज होता है।

Question ID : 26433067035
Status : Answered
Chosen Option : 3

Q.2 निम्नलिखित मुहावरे के लिए उपयुक्त सार्थक शब्द है-
जी अच्छा होना

- Ans
- 1. तबियत ठीक होना
 - 2. बहाना करना
 - 3. रंग विरंगी
 - 4. हिम्मत करना

Question ID : 26433065770
Status : Answered
Chosen Option : 1

Q.3 दिए गए विकल्पों में से कौन सा शब्द निम्नलिखित वाक्य में रेखांकित शब्द का पर्यायवाची नहीं है?

रासबिहारी बोस दिल्ली 'षड्यन्त्र' के मुख्य अभियुक्त थे।

- Ans
- 1. कुचक्र
 - 2. साजिश
 - 3. साजिद
 - 4. दुरभिसंधि

Question ID : 26433091340
Status : Answered
Chosen Option : 3

Q.4 वाक्यांश और उसके लिए एक शब्द का निम्न में से कौन सा युग्म अशुद्ध है?

- Ans
- 1. लाभ पाने की इच्छा-लिप्सा
 - 2. जो किसी से जीता न जा सके-अजेय
 - 3. नाप तौलकर खर्च करने वाला-मितभाषी
 - 4. सात दिन का समूह-सप्ताह

Question ID : 264330109529
Status : Answered
Chosen Option : 3

Q.5 रिक्त स्थान की पूर्ति उचित कारक चिन्ह से करें-

श्याम मीरा _____ खिलौने लाया।

- Ans
- 1. ने
 - 2. का
 - 3. में
 - 4. के लिए

Question ID : 26433085031
Status : Answered
Chosen Option : 4

Q.6 निम्नलिखित वाक्य में रेखांकित खंड के स्थान पर प्रयुक्त होने वाले सबसे उपयुक्त विकल्प का चयन कीजिए-

वह अतिथि सेवा के तत्पर लिए है।

- Ans
- 1. के लिए है तत्पर
 - 2. तत्पर के लिए है
 - 3. तत्पर है के लिए
 - 4. के लिए तत्पर है

Question ID : 26433070051
Status : Answered
Chosen Option : 4

Q.7 भगवान दिवाकर जीवनदायी हैं।

रेखांकित शब्द के उचित पर्यायवाची शब्द का चयन कीजिए।

- Ans
- 1. शशि
 - 2. अब्ज
 - 3. नयन
 - 4. सूर्य

Question ID : 26433079620
Status : Answered
Chosen Option : 4

Q.8 निम्नलिखित वाक्य में त्रुटि पहचानें-
मैंने हाथ जोड़ दिया।

- Ans
- 1. दीया
 - 2. मैंने
 - 3. हाथ
 - 4. जोड़

Question ID : 26433066821
Status : Answered
Chosen Option : 1

Q.9 निम्नलिखित में से शुद्ध वाक्य है-

- Ans
- 1. बहुत लोग ईक साथ दौड़ पड़े।
 - 2. बहुत लोग एक साथ दौठ पड़े।
 - 3. बहुत लोग एक साथ दौड़ पड़े।
 - 4. बहुत लोग एक सथ दौड़ पड़े।

Question ID : 26433066842
Status : Answered
Chosen Option : 3

Q.10 रेखांकित शब्द-समूह के लिए सर्वाधिक उपयुक्त विकल्प चुनें।
आकाश में इतने तारे हैं कि गिने न जा सकें।

- Ans
- 1. गणनीय
 - 2. असंख्य
 - 3. अनगिनत
 - 4. गिनती के

Question ID : 26433062281
Status : Answered
Chosen Option : 3

Q.11 अरे ! साँप कहाँ गया ?

इस वाक्य में प्रयुक्त क्रिया विशेषण 'कहाँ' किस प्रकार का क्रियाविशेषण है ?

- Ans
- 1. यौगिक क्रिया विशेषण
 - 2. मूल क्रिया विशेषण
 - 3. अनुबद्ध क्रिया विशेषण
 - 4. साधारण क्रिया विशेषण

Question ID : 26433079231
Status : Answered
Chosen Option : 2

Q.12 रितेश को जब कक्षा में प्रथम आने का समाचार मिला, तो उसकी _____ खिल गई।
रिक्त स्थान की पूर्ति उचित शब्द द्वारा कीजिए।

- Ans
- 1. बाँछें
 - 2. आँखे
 - 3. चेहरा
 - 4. मुस्कान

Question ID : 26433062618
Status : Answered
Chosen Option : 4

Q.13 मैंने विद्यालय के प्रधानाचार्य से प्रार्थना की कि मुझे छात्रवृत्ति प्रदान करें।
उपरोक्त वाक्य में प्रयुक्त 'प्रार्थना' शब्द का सही अर्थ है -

- Ans
- 1. विनय पूर्वक विनती करना
 - 2. तर्क से अपनी बात रखना
 - 3. अपनी बात मनवाने के लिए कहना
 - 4. आग्रह पूर्वक विनती करना

Question ID : 26433080914
Status : Answered
Chosen Option : 4

Q.14 निम्न वाक्य में अनुपयुक्त शब्द-प्रयोग सम्बन्धी अशुद्धि दूर करने के लिए, रेखांकित भाग को उचित विकल्प चुनकर प्रतिस्थापित करें-
'हिन्दी-साहित्य में आचार्य रामचंद्र शुक्ल एक बड़े व्याख्याता माने जाते हैं।'

- Ans
- 1. एक अच्छे वर्चक
 - 2. एक उत्कृष्ट विश्लेषक
 - 3. एक बड़े साहित्यक
 - 4. बड़े अच्छे वक्ता

Question ID : 26433062805
Status : Answered
Chosen Option : 3

Q.15 निम्न में से कौन सा 'जल' शब्द का पर्यायवाची है?

- Ans
- 1. अंबुधि
 - 2. नीरज
 - 3. वारिज
 - 4. नीर

Question ID : 26433092014
Status : Answered
Chosen Option : 4

Comprehension:

निम्नलिखित गद्यांश में कुछ शब्दों को हटा दिया गया है। दिए गए विकल्पों की सहायता से रिक्त स्थानों की पूर्ति कीजिए। प्रत्येक संख्या के लिए सबसे उपयुक्त विकल्प का चयन करें।

आत्मनिर्भरता से तात्पर्य है- अपने ऊपर 1. _____ रहना। जब मनुष्य अपने कार्य 2. _____ करता है तो आत्मनिर्भर कहलाता है। बहुत से कार्य वह दूसरों के 3. _____ करता है। आत्मनिर्भरता का अर्थ यह है कि जब किसी कार्य को करने का मन करे, उसके लिए पूर्ण 4. _____ और लगन का परिचय दे। स्वयं अपने सहारे उसे सिद्ध करने का 5. _____ करें।

SubQuestion No : 16

Q.16 रिक्त स्थान 1 की पूर्ति के लिए सबसे उपयुक्त विकल्प का चयन कीजिए।

- Ans
- 1. दूभर
 - 2. सहारा
 - 3. निर्भर
 - 4. प्रवृत्ति

Question ID : 264330111077

Status : Answered

Chosen Option : 3

Comprehension:

निम्नलिखित गद्यांश में कुछ शब्दों को हटा दिया गया है। दिए गए विकल्पों की सहायता से रिक्त स्थानों की पूर्ति कीजिए। प्रत्येक संख्या के लिए सबसे उपयुक्त विकल्प का चयन करें।

आत्मनिर्भरता से तात्पर्य है- अपने ऊपर 1. _____ रहना। जब मनुष्य अपने कार्य 2. _____ करता है तो आत्मनिर्भर कहलाता है। बहुत से कार्य वह दूसरों के 3. _____ करता है। आत्मनिर्भरता का अर्थ यह है कि जब किसी कार्य को करने का मन करे, उसके लिए पूर्ण 4. _____ और लगन का परिचय दे। स्वयं अपने सहारे उसे सिद्ध करने का 5. _____ करें।

SubQuestion No : 17

Q.17 रिक्त स्थान 2 की पूर्ति के लिए सबसे उपयुक्त विकल्प का चयन कीजिए।

- Ans
- 1. स्वयं
 - 2. नहीं
 - 3. श्रेष्ठ
 - 4. कल

Question ID : 264330111078

Status : Answered

Chosen Option : 1

Comprehension:

निम्नलिखित गद्यांश में कुछ शब्दों को हटा दिया गया है। दिए गए विकल्पों की सहायता से रिक्त स्थानों की पूर्ति कीजिए। प्रत्येक संख्या के लिए सबसे उपयुक्त विकल्प का चयन करें।

आत्मनिर्भरता से तात्पर्य है- अपने ऊपर 1. _____ रहना। जब मनुष्य अपने कार्य 2. _____ करता है तो आत्मनिर्भर कहलाता है। बहुत से कार्य वह दूसरों के 3. _____ करता है। आत्मनिर्भरता का अर्थ यह है कि जब किसी कार्य को करने का मन करे, उसके लिए पूर्ण 4. _____ और लगन का परिचय दे। स्वयं अपने सहारे उसे सिद्ध करने का 5. _____ करें।

SubQuestion No : 18

Q.18 रिक्त स्थान 3 की पूर्ति के लिए सबसे उपयुक्त विकल्प का चयन कीजिए।

Ans 1. सहारे

2. प्रकार

3. लक्ष्य

4. स्थिति

Question ID : 264330111079

Status : Not Answered

Chosen Option : --

Comprehension:

निम्नलिखित गद्यांश में कुछ शब्दों को हटा दिया गया है। दिए गए विकल्पों की सहायता से रिक्त स्थानों की पूर्ति कीजिए। प्रत्येक संख्या के लिए सबसे उपयुक्त विकल्प का चयन करें।

आत्मनिर्भरता से तात्पर्य है- अपने ऊपर 1. _____ रहना। जब मनुष्य अपने कार्य 2. _____ करता है तो आत्मनिर्भर कहलाता है। बहुत से कार्य वह दूसरों के 3. _____ करता है। आत्मनिर्भरता का अर्थ यह है कि जब किसी कार्य को करने का मन करे, उसके लिए पूर्ण 4. _____ और लगन का परिचय दे। स्वयं अपने सहारे उसे सिद्ध करने का 5. _____ करें।

SubQuestion No : 19

Q.19 रिक्त स्थान 4 की पूर्ति के लिए सबसे उपयुक्त विकल्प का चयन कीजिए।

Ans 1. तत्परता

2. विफलता

3. अकर्मण्यता

4. सहायता

Question ID : 264330111080

Status : Not Answered

Chosen Option : --

Comprehension:

निम्नलिखित गद्यांश में कुछ शब्दों को हटा दिया गया है। दिए गए विकल्पों की सहायता से रिक्त स्थानों की पूर्ति कीजिए। प्रत्येक संख्या के लिए सबसे उपयुक्त विकल्प का चयन करें।

आत्मनिर्भरता से तात्पर्य है- अपने ऊपर 1. _____ रहना। जब मनुष्य अपने कार्य 2. _____ करता है तो आत्मनिर्भर कहलाता है। बहुत से कार्य वह दूसरों के 3. _____ करता है। आत्मनिर्भरता का अर्थ यह है कि जब किसी कार्य को करने का मन करे, उसके लिए पूर्ण 4. _____ और लगन का परिचय दे। स्वयं अपने सहारे उसे सिद्ध करने का 5. _____ करें।

SubQuestion No : 20

Q.20 रिक्त स्थान 5 की पूर्ति के लिए सबसे उपयुक्त विकल्प का चयन कीजिए।

- Ans
- 1. पाठ
 - 2. प्रयास
 - 3. ध्यान
 - 4. विकास

Question ID : 264330111081

Status : Not Answered

Chosen Option : --

KD Job Updates

Constable GD in CAPFs SSF Rifleman GD in Assam Rifles and Sepoy in NCB Examination 2022

Roll Number	KD Job Updates
Candidate Name	KD Job Updates
Venue Name	iON Digital Zone iDZ Chandpura
Exam Date	11/01/2023
Exam Time	9:00 AM - 10:00 AM
Subject	Constable GD Examination 2022

Section : Part-A-General Intelligence and Reasoning

Q.1 यदि दर्पण को 'PQ' पर रखा जाए जैसा कि नीचे दिखाया गया है, तो दिए गए अक्षर संयोजन का सही दर्पण प्रतिबिम्ब कौन-सा होगा?

G C P U W K | P
Q

- Ans
- ✗ 1. K W U P C Q
 - ✗ 2. Q C U W K
 - ✓ 3. K W U P C Q
 - ✗ 4. K M U P C Q

Question ID : 26433081696

Status : Answered

Chosen Option : 3

Q.2 'A + B' का अर्थ है 'B, A का भाई है'
'A - B' का अर्थ है 'B, A की बहन है'
'A % B' का अर्थ है 'B, A की पुत्री है'
'A & B' का अर्थ है 'B, A की पत्नी है'
यदि A & B % C + D - E है, तो E, A से किस प्रकार संबंधित है?


- Ans
- ✗ 1. माता
 - ✓ 2. पुत्री
 - ✗ 3. बहन
 - ✗ 4. पत्नी

Question ID : 26433068529

Status : Answered

Chosen Option : 2

Q.3 उस आकृति का चयन कीजिए, जो नीचे दी गई शृंखला में आगे आएगी।



Ans

- ✗ 1.
- ✗ 2.
- ✗ 3.
- ✓ 4.

Question ID : 26433078969

Status : Answered

Chosen Option : 4

Q.4 एक निश्चित कूट भाषा में 'SLOWLY' को 'TMNXMZ' और 'FRIEND' को 'GSHDOE' लिखा जाता है। उसी भाषा में 'BORING' को किस प्रकार लिखा जाएगा?

- Ans
- ✓ 1. CNSHOH
 - ✗ 2. CNSHOF
 - ✗ 3. CPSNOH
 - ✗ 4. CNSJOH

Question ID : 26433081760

Status : Answered

Chosen Option : 1

Q.5 किस विकल्प में निम्नलिखित शब्दों का वह क्रम दिया गया है, जिस क्रम में वे अंग्रेजी शब्दकोश में आते हैं?
1 kind
2 kite
3 knit
4 king
5 kindle

- Ans 1. 1,4,5,2,3
 2. 1,4,2,5,3
 3. 1,5,2,4,3
 4. 1,5,4,2,3

Question ID : 26433069300

Status : Answered

Chosen Option : 4

Q.6 तीन कथनों के बाद तीन निष्कर्ष I, II और III दिए गए हैं। कथनों को सत्य मानते हुए, भले ही वे सामान्य रूप से ज्ञात तथ्यों से भिन्न प्रतीत होते हों, निर्धारित करें कि कौन-सा/से निष्कर्ष कथनों का तार्किक रूप से अनुसरण करता है/करते हैं।

कथन:

सभी बैग रबर हैं।

कुछ रबर कुर्सियां हैं।

सभी कुर्सियां मेज हैं।

निष्कर्ष:

I. कुछ रबर बैग हैं।

II. कुछ कुर्सियां रबर हैं।

III. कुछ कुर्सियां मेज हैं।

- Ans 1. निष्कर्ष II और III दोनों अनुसरण करते हैं।
 2. निष्कर्ष I और II दोनों अनुसरण करते हैं।
 3. निष्कर्ष I और III दोनों अनुसरण करते हैं।
 4. सभी निष्कर्ष अनुसरण करते हैं।

Question ID : 26433074639

Status : Answered

Chosen Option : 4

Q.7 एक निश्चित कूट भाषा में, 'GHOST' को 'JCRNW' और 'FIRED' को 'IDUZG' लिखा जाता है। उसी कूट भाषा में 'RIFLE' को किस प्रकार लिखा जाएगा?

- Ans 1. PDBGH
 2. UDIGH
 3. UIDBH
 4. VEJFH

Question ID : 26433068145

Status : Answered

Chosen Option : 2

Q.8 सात मित्र एक वृत्ताकार मेज के परितः मेज के केंद्र की ओर मुख करके बैठे हैं। T, K और U के ठीक बगल में बैठा है। S, K के दाईं ओर ठीक बगल में बैठा है। W, U और M के ठीक बगल में है। K के बाईं ओर तीसरे स्थान पर कौन बैठा है?

- Ans
- 1. M
 - 2. W
 - 3. T
 - 4. U

Question ID : 26433080433

Status : Answered

Chosen Option : 2

Q.9 उस विकल्प का चयन कीजिए जो पांचवें अक्षर-समूह से उसी प्रकार संबंधित है जिस प्रकार दूसरा अक्षर-समूह, पहले अक्षर-समूह से संबंधित है और चौथा अक्षर-समूह, तीसरे अक्षर-समूह से संबंधित है।
PAE : HCQ :: ESH: KUF :: FDN : ?

- Ans
- 1. KGP
 - 2. KFG
 - 3. QFG
 - 4. PFH

Question ID : 26433057713

Status : Answered

Chosen Option : 3

Q.10 निम्न श्रंखला में प्रश्न-चिह्न (?) के स्थान पर कौन सी संख्या आएगी?
6, 24, 60, 120, ?

- Ans
- 1. 150
 - 2. 180
 - 3. 210
 - 4. 135

Question ID : 26433067838

Status : Answered

Chosen Option : 3

Q.11 नीचे दिए गए समीकरण को गणितीय रूप से सही बनाने के लिए किन दो गणितीय चिन्हों को परस्पर बदलना चाहिए?
 $144 - 12 + 18 \times 6 \div 24 = 96$

- Ans
- 1. - और ×
 - 2. - और +
 - 3. × और ÷
 - 4. - और ÷

Question ID : 264330117489

Status : Answered

Chosen Option : 4

Q.12 कौन-सा अक्षर-समूह दी गई श्रृंखला में प्रश्नचिह्न (?) के स्थान पर आकर श्रृंखला को पूर्ण करेगा?
XCMQ, YDNR, ?, AFPT, BGQU

- Ans
- 1. ZEPS
 - 2. ZEOS
 - 3. ZEOR
 - 4. ZEUS

Question ID : 26433067941

Status : Answered

Chosen Option : 2

Q.13 उस विकल्प का चयन कीजिए जो तीसरे शब्द से उसी प्रकार संबंधित है जिस प्रकार दूसरा शब्द पहले शब्द से संबंधित है। (शब्दों को अर्थपूर्ण शब्दों के रूप में मानना है और उन्हें शब्द में अक्षरों/व्यंजनों/स्वरों की संख्या के आधार पर एक-दूसरे से संबंधित नहीं करना है।)
चील : पंजा :: घोड़ा : ?

- Ans
- 1. तेज़
 - 2. खुर
 - 3. ताकतवर
 - 4. शक्ति

Question ID : 26433069578

Status : Answered

Chosen Option : 2

Q.14 कौन-सा अक्षर-समूह दी गई श्रृंखला में प्रश्नचिह्न (?) के स्थान पर आकर श्रृंखला को पूर्ण करेगा?
QJKE, SHIG, UFGI, ?, YBCM

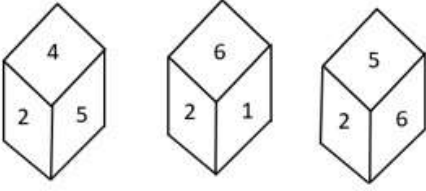
- Ans
- 1. VEFL
 - 2. WCFM
 - 3. WDEK
 - 4. VDEN

Question ID : 26433068036

Status : Answered

Chosen Option : 3

Q.15 एक ही पासे की तीन अलग-अलग स्थितियों को दर्शाया गया है। '2' दर्शाने वाले फलक के विपरीत फलक की संख्या ज्ञात कीजिए।



- Ans
- 1. 4
 - 2. 3
 - 3. 1
 - 4. 5

Question ID : 26433090067

Status : Answered

Chosen Option : 2

Q.16 गणितीय चिह्नों के सही संयोजन का चयन करें जिसे क्रमिक रूप से * चिह्नों के स्थान पर रखने से दिया गया समीकरण संतुलित हो जाएगा।
 $10 * 18 * 19 * 2 * 1 * 217$

- Ans
- 1. $\times, +, \times, -, =$
 - 2. $+, +, \times, -, =$
 - 3. $\times, +, \times, +, =$
 - 4. $\times, +, -, -, =$

Question ID : 26433082881

Status : Answered

Chosen Option : 1

Q.17 उस समुच्चय का चयन करें, जिसकी संख्याओं के बीच ठीक वही संबंध है, जो संबंध निम्नांकित समुच्चयों की संख्याओं में हैं।

(नोट: संख्याओं को उसके घटक अंकों में विभाजित किए बिना, पूर्ण संख्याओं पर ही गणितीय संक्रियाएँ की जानी चाहिए। जैसे 13 - मान लीजिए 13 पर गणितीय संक्रियाएँ जैसे कि 13 में जोड़ना/घटाना/गुणा करना आदि किया जा सकता है। 13 को 1 और 3 में तोड़कर और फिर 1 और 3 पर गणितीय संक्रियाएँ करने की अनुमति नहीं है।)

(11, 78, 15)
(12, 90, 18)

- Ans
- 1. (12, 89, 17)
 - 2. (11, 91, 19)
 - 3. (10, 54, 17)
 - 4. (13, 96, 19)

Question ID : 26433076541

Status : Answered

Chosen Option : 4

Q.18 निम्न में से कौन सी संख्या दी गई श्रृंखला में प्रश्नचिह्न (?) के स्थान पर आएगी?
62498, 61874, ?, 60644, 60038, 59438

- Ans
- 1. 60544
 - 2. 61656
 - 3. 60446
 - 4. 61256

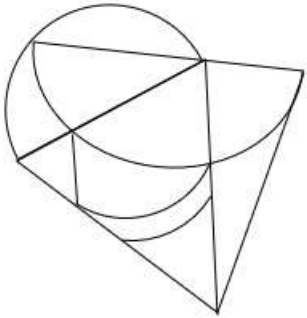
Question ID : 26433076751

Status : Answered

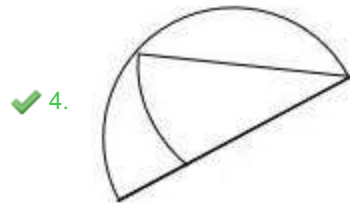
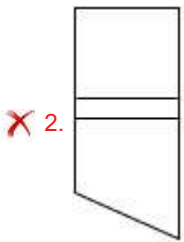
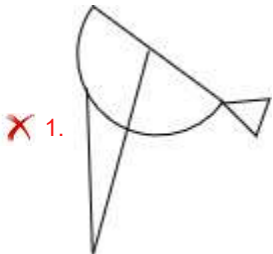
Chosen Option : 4

Q.19 वह विकल्प चित्र चुनिए, जो प्रस्तुत चित्र में अंतर्निहित है। (घुमाना अनुमन्य नहीं

है)



Ans



Question ID : 26433069331

Status : Answered

Chosen Option : 4

Q.20 छः व्यक्ति U, V, W, X, Y और Z वृत्त बनाके केंद्र से विपरीत दिशा की ओर मुख करके बैठे हैं। U, Y के दाईं ओर तीसरे स्थान पर बैठा है। W, U के बाईं ओर ठीक बगल में बैठा है। W, V के बाईं ओर तीसरे स्थान पर बैठा है। Z, U के बगल में नहीं बैठा है। W और Y के बीच में कौन बैठा है?

- Ans
- 1. U
 - 2. Z
 - 3. X
 - 4. V

Question ID : 264330114206
Status : Answered
Chosen Option : 2

Section : Part-B-General Knowledge and General awareness

Q.1 2003 में, सबसे कम आयु में पद्म विभूषण प्राप्त करने वाले भारतीय नर्तक/नर्तकी का नाम निम्न में से क्या था?

- Ans
- 1. सोनल मानसिंह
 - 2. उदय शंकर
 - 3. केलूचरण महापात्रा
 - 4. पंडित बिरजू महाराज

Question ID : 264330115839
Status : Not Answered
Chosen Option : --

Q.2 FIFA विश्व कप 2022 की मेजबानी किसने की?

- Ans
- 1. ब्राज़िल
 - 2. कतर
 - 3. स्पेन
 - 4. जर्मनी

Question ID : 264330115926
Status : Answered
Chosen Option : 2

Q.3 कैल्सियम कार्बोनेट का रासायनिक सूत्र क्या है?

- Ans
- 1. CaSO_4
 - 2. CaCO_2
 - 3. CaO
 - 4. CaCO_3

Question ID : 264330115166
Status : Answered
Chosen Option : 4

Q.4 एक संकरी पट्टी में स्थित क्षोभमंडल में अत्यधिक ऊँचाई (12000 मीटर से अधिक) वाली पश्चिमी हवाएँ होती हैं। इनकी गति गर्मी में 110 कि.मी. प्रति घंटा तथा सर्दी में 184 कि.मी. प्रति घंटा होती है।

- Ans
- 1. चक्रवात (Hurricane)
 - 2. डेरेचो
 - 3. जेट धाराएं
 - 4. बवंडर (Whirlwind)

Question ID : 264330115978

Status : Answered

Chosen Option : 3

Q.5 निम्नलिखित में से किस शास्त्रीय नृत्य रूप की शुरुआत 16वीं शताब्दी में वैष्णव संत महापुरुष शंकरदेव द्वारा की गई थी?

- Ans
- 1. ओडिसी
 - 2. कुचिपुड़ी
 - 3. मणिपुरी
 - 4. सत्रीया

Question ID : 264330115062

Status : Not Answered

Chosen Option : --

Q.6 विरासत का अधिकार (right of inheritance) किस ओर ले जाता है?

- Ans
- 1. भूमि प्रदुषण
 - 2. भूमि का विभाजन
 - 3. भूमि की कमी
 - 4. अनुपजाऊ भूमि

Question ID : 264330115523

Status : Answered

Chosen Option : 2

Q.7 2011 की जनगणना के अनुसार किस केंद्र शासित प्रदेश का लिंगानुपात सबसे अधिक है?

- Ans
- 1. दमन और दीव
 - 2. पुदुचेरी
 - 3. चंडीगढ़
 - 4. लक्षद्वीप

Question ID : 264330116048

Status : Answered

Chosen Option : 3

Q.8 गांधी-इरविन समझौते पर किस वर्ष हस्ताक्षर किए गए थे?

- Ans
- 1. 1933
 - 2. 1935
 - 3. 1931
 - 4. 1929

Question ID : 264330115685
Status : Answered
Chosen Option : 3

Q.9 नवंबर 2022 तक की स्थिति के अनुसार, भारत में केंद्रीय शिक्षा मंत्री कौन हैं?

- Ans
- 1. अनुराग ठाकुर
 - 2. किरण रिजिजू
 - 3. धर्मेन्द्र प्रधान
 - 4. मनसुख मंडाविया

Question ID : 264330114931
Status : Answered
Chosen Option : 3

Q.10 देश के राष्ट्रपति को उनके पद से हटाने को _____ के रूप में जाना जाता है।

- Ans
- 1. सेवाओं से स्वैच्छिक सेवानिवृत्ति
 - 2. सेवाओं की समाप्ति
 - 3. महाभियोग
 - 4. त्यागपत्र

Question ID : 264330115666
Status : Answered
Chosen Option : 3

Q.11 स्वतंत्रता के बाद, भारत ने _____ में अपनी पहली पंचवर्षीय योजना शुरू की।

- Ans
- 1. 1953
 - 2. 1950
 - 3. 1952
 - 4. 1951

Question ID : 264330116134
Status : Answered
Chosen Option : 4

Q.12 निम्नलिखित यूनानी शासकों में से किसने मेगस्थनीज को चंद्रगुप्त मौर्य के दरबार में भेजा था?

- Ans
- 1. अमीनटास तृतीय
 - 2. फिलिप द्वितीय
 - 3. सेल्यूकस निकेटर
 - 4. अमीनटास द्वितीय

Question ID : 26433090574

Status : Answered

Chosen Option : 3

Q.13 एक बजट दस्तावेज, जो किसी विशेष वित्तीय वर्ष के लिए सरकार की राजस्व प्राप्तियों और राजस्व व्यय से संबंधित होता है, _____ कहलाता है।

- Ans
- 1. राजस्व बजट
 - 2. दीर्घकालिक बजट
 - 3. पूंजीगत बजट
 - 4. शून्य बजट

Question ID : 264330115276

Status : Answered

Chosen Option : 4

Q.14 अक्टूबर 2022 में, मेघालय के राज्यपाल के रूप में किसने शपथ ली?

- Ans
- 1. सत्य पाल मलिक
 - 2. बी. डी. मिश्रा
 - 3. बनवारीलाल पुरोहित
 - 4. तथागत राय

Question ID : 264330114979

Status : Answered

Chosen Option : 2

Q.15 मोहन बागान एथलेटिक क्लब किस शहर में स्थित है?

- Ans
- 1. लखनऊ
 - 2. बुलंदशहर
 - 3. जयपुर
 - 4. कोलकाता

Question ID : 26433092324

Status : Not Answered

Chosen Option : --

Q.16 किस विटामिन को थायमिन के नाम से भी जाना जाता है?

- Ans
- 1. विटामिन B3
 - 2. विटामिन B1
 - 3. विटामिन B2
 - 4. विटामिन B12

Question ID : 264330115222

Status : Answered

Chosen Option : 2

Q.17 भारतीय संविधान में अंतिम अनुच्छेद को संख्या _____ दी गयी है। (मई 2022 तक प्राप्त जानकारी के अनुसार)

- Ans
- 1. 380
 - 2. 395
 - 3. 385
 - 4. 390

Question ID : 264330115611

Status : Not Answered

Chosen Option : --

Q.18 चीनी उद्योग के लिए प्राथमिक कच्चा माल _____ है।

- Ans
- 1. शकरकंद
 - 2. रासायनिक स्वीटनर
 - 3. गन्ना
 - 4. सेब

Question ID : 264330115395

Status : Answered

Chosen Option : 3

Q.19 भारत सरकार ने "राष्ट्रीय मधुमक्खी पालन एवं शहद मिशन (NBHM)" नाम की एक नई केंद्रीय क्षेत्र योजना को मंजूरी दी है जो _____ क्रांति से जुड़ी है।

- Ans
- 1. स्वर्ण
 - 2. मिष्ठान्न
 - 3. नमकीन
 - 4. शहद

Question ID : 264330116185

Status : Answered

Chosen Option : 4

Q.20 _____ को भारत में गुजराती नव वर्ष के रूप में मनाया जाता है।

- Ans
- 1. लोसर
 - 2. लोसांग
 - 3. विशु
 - 4. बेस्तु वरस

Question ID : 264330115107

Status : Not Answered

Chosen Option : --

Section : Part-C-Elementary Mathematics

Q.1 यदि मशीन A और B क्रमशः 9 घंटे और 12 घंटे में 1100 यूनिट का उत्पादन कर सकती हैं, तो मशीन A और B इन नियत दरों पर एक साथ काम करते हुए कितने घंटे में 1100 यूनिट का उत्पादन कर सकती हैं?

- Ans
- 1. $\frac{36}{7}$
 - 2. $\frac{37}{7}$
 - 3. $\frac{39}{7}$
 - 4. $\frac{38}{7}$

Question ID : 26433074312

Status : Answered

Chosen Option : 1

Q.2 एक क्लब में 90 महिला सदस्य और 60 पुरुष सदस्य हैं। यदि महिला सदस्यों की औसत आयु 35 वर्ष है और पुरुष सदस्यों की औसत आयु 45 वर्ष है, तो पूरे क्लब की औसत आयु (वर्षों में) ज्ञात कीजिए।

- Ans
- 1. 36
 - 2. 40
 - 3. 47
 - 4. 39

Question ID : 26433082705

Status : Answered

Chosen Option : 4

Q.3 एक व्यक्ति पहले दिन पर 6 घंटे में 240 kms, दूसरे दिन पर 8 घंटे में 360 kms और तीसरे दिन पर 6 घंटे में 450 kms की दूरी पूरी करता है। 3 दिनों में उसके द्वारा पूरी की गई प्रति घंटे की औसत दूरी ज्ञात करें।

- Ans
- 1. 51 kms
 - 2. 50.5 kms
 - 3. 48 kms
 - 4. 52.5 kms

Question ID : 264330116683
Status : Answered
Chosen Option : 4

Q.4 मनीष ने एक एयर कंडीशनर Rs.46,875 में खरीदा, इसके मूल्य का 8% वार्षिक दर से मूल्यहास हो रहा है। 3 वर्षों बाद एयर कंडीशनर की कीमत क्या होगी?

- Ans
- 1. Rs.35,602
 - 2. Rs.32,245
 - 3. Rs.36,501
 - 4. Rs.33,786

Question ID : 26433080339
Status : Answered
Chosen Option : 3

Q.5 प्याज के मूल्य में 25 प्रतिशत की वृद्धि से एक महिला 200 रुपए में 5 kg कम खरीद सकती है। प्याज का बढ़ा हुआ मूल्य प्रति kg है:

- Ans
- 1. 8 रुपए प्रति kg
 - 2. 15 रुपए प्रति kg
 - 3. 5 रुपए प्रति kg
 - 4. 10 रुपए प्रति kg

Question ID : 264330116789
Status : Answered
Chosen Option : 4

Q.6 किसी अनुपात में प्रथम और चतुर्थ पद का गुणनफल 70 है और द्वितीय और तृतीय पद का गुणनफल $3.5x$ है। x का मान _____ है।

- Ans
- 1. 20
 - 2. 35
 - 3. 21
 - 4. 2

Question ID : 26433074931
Status : Answered
Chosen Option : 1

Q.7 एक शंकु की त्रिज्या 5 cm है और इसकी तिर्यक ऊँचाई 16 cm है। इसका कुल पृष्ठीय क्षेत्रफल (cm^2 में) _____ होगा।

- Ans 1. 320
 2. 330
 3. 310
 4. 300

Question ID : 26433085772
Status : Answered
Chosen Option : 2

Q.8 कितने वर्षों में ₹800 की धनराशि 10% वार्षिक दर से ₹926.10 हो जाएगी, जबकि ब्याज अर्ध-वार्षिक रूप से संयोजित होता है?

- Ans 1. 1.5
 2. 3
 3. 2
 4. 2.5

Question ID : 26433082403
Status : Answered
Chosen Option : 1

Q.9 A और B मिलकर एक कार्य को 50 घंटे में पूरा कर सकते हैं, B और C मिलकर उसी कार्य को 75 घंटे में कर सकते हैं और A और C मिलकर उसी कार्य को 25 घंटे में कर सकते हैं। वह समय ज्ञात करें जिसमें A, B और C मिलकर कार्य को पूरा करेंगे।

- Ans 1. 131/11 घंटे
 2. 150/11 घंटे
 3. 400/11 घंटे
 4. 300/11 घंटे

Question ID : 264330116869
Status : Answered
Chosen Option : 4

Q.10 14 cm ऊँचाई वाले लम्ब वृत्तीय बेलन का वक्र पृष्ठीय क्षेत्रफल 110 cm^2 है। बेलन का आधार व्यास क्या है? ($\pi = \frac{22}{7}$ का प्रयोग करें)

- Ans 1. 2.5 cm
 2. 2.4 cm
 3. 2.6 cm
 4. 2.7 cm

Question ID : 26433079779
Status : Answered
Chosen Option : 1

Q.11 दो संख्याओं के बीच का अंतर उनके योग का 15% है। छोटी संख्या और बड़ी संख्या का अनुपात ज्ञात करें।

- Ans
- 1. $\frac{23}{17}$
 - 2. $\frac{17}{13}$
 - 3. $\frac{13}{17}$
 - 4. $\frac{17}{23}$

Question ID : 26433080366

Status : Answered

Chosen Option : 4

Q.12 रूबी ने Rs.1 में 20 बटन खरीदे। 25% का लाभ प्राप्त करने के लिए उसे Rs.1 में कितने बटन बेचने चाहिए?

- Ans
- 1. 17
 - 2. 16
 - 3. 14
 - 4. 15

Question ID : 26433080304

Status : Answered

Chosen Option : 2

Q.13 यदि $a + b = 25$ और $a - b = 7$ है, तो a और b का मध्यानुपाती ज्ञात करें।

- Ans
- 1. 9
 - 2. 6
 - 3. 12
 - 4. 15

Question ID : 26433080114

Status : Answered

Chosen Option : 3

Q.14 यदि $2^{305} + 303$ को 9 से विभाजित किया जाता है, तो शेषफल _____ होता है।

- Ans
- 1. 2
 - 2. 1
 - 3. 6
 - 4. 4

Question ID : 26433079904

Status : Answered

Chosen Option : 2

Q.15 एक वस्तु का अंकित मूल्य 100000 रुपए था। लेकिन दुकानदार ने 20 प्रतिशत और 10 प्रतिशत की दोहरी छूट दी। अंततः उसने किस मूल्य पर वस्तु बेची?

- Ans
- 1. 82000 रुपए
 - 2. 72000 रुपए
 - 3. 70000 रुपए
 - 4. 80000 रुपए

Question ID : 264330116754

Status : Answered

Chosen Option : 2

Q.16 रॉबिन किसी दूरी का एक चौथाई भाग 20 km/h की चाल से, अगला एक चौथाई भाग 10 km/h की चाल से, और शेष भाग 80 km/h की चाल से तय करता है। संपूर्ण दूरी के लिए रॉबिन की औसत चाल ज्ञात कीजिए (2 दशमलव स्थानों तक)?

- Ans
- 1. 20 km/h
 - 2. 18.2 km/h
 - 3. 25 km/h
 - 4. 22.86 km/h

Question ID : 26433065292

Status : Answered

Chosen Option : 2

Q.17 4 अंकीय सबसे बड़ी और सबसे छोटी संख्या के बीच का अंतर ज्ञात करें जो 36 और 48 से पूर्णतः विभाज्य हैं।

- Ans
- 1. 8982
 - 2. 8298
 - 3. 8928
 - 4. 8892

Question ID : 264330116648

Status : Not Answered

Chosen Option : --

Q.18 एक वस्तु पर अंकित मूल्य 2000/- रुपए था लेकिन दुकानदार ने 20 प्रतिशत की छूट दी। उसने अंततः वस्तु को कितने में बेचा?

- Ans
- 1. 1400 रुपए
 - 2. 1200 रुपए
 - 3. 1600 रुपए
 - 4. 1500 रुपए

Question ID : 264330116715

Status : Answered

Chosen Option : 3

Q.19 एक कुर्सी ₹800 में खरीदी जाती है और ₹1,100 में बेची जाती है। लाभ प्रतिशत ज्ञात कीजिए।

Ans 1. 37.5%

2. 30%

3. 40%

4. 32.3%

Question ID : 26433074276

Status : Answered

Chosen Option : 1

Q.20 एक व्यक्ति कार से 600 km की दूरी 50 km/h की औसत चाल से तय करता है और 100 km की दूरी 100 km/h की चाल से यात्रा करता है, और अंत में 50 km की दूरी 25 km/h की चाल से तय करके अपने गंतव्य तक पहुंचता है। पूरी यात्रा के दौरान उसकी औसत चाल ज्ञात कीजिए।

Ans 1. 50 km/h

2. 25 km/h

3. 75 km/h

4. 58.33 km/h

Question ID : 26433071334

Status : Answered

Chosen Option : 1

Section : Part-D-English

Q.1 The sentence below is divided into four segments. Select the option that has an error of tense.

I has been / visiting my / family and relatives / during the winter vacation.

Ans 1. visiting my

2. family and relatives

3. I has been

4. during the winter vacation

Question ID : 26433092945

Status : Not Answered

Chosen Option : --

Q.2 Select the option in which all the words are spelt correctly.

Ans 1. The sage preached that we are accuuntable to God in this life.

2. The sage preached that we are akountable to God in this life.

3. The sage preached that we are accountable to God in this life.

4. The sage preached that we are accountable to God in this life.

Question ID : 26433072287

Status : Not Answered

Chosen Option : --

Q.3 Select the most appropriate option to fill in the blank.

He indeed is intelligent who _____ this and succeeds in making all work truly great.

- Ans 1. notices
 2. noticing
 3. was noticed
 4. noticed

Question ID : 26433088957
Status : Not Answered
Chosen Option : --

Q.4 Complete the sentence using correct pair of words from the options given.

My brother _____ apples during his fast.

- Ans 1. eight; eight
 2. eight; ate
 3. ate; ate
 4. ate; eight

Question ID : 26433088870
Status : Not Answered
Chosen Option : --

Q.5 Select the most appropriate option to fill in the blank.

He is an absolutely _____ man.

- Ans 1. crazed
 2. chased
 3. chaste
 4. chest

Question ID : 26433090388
Status : Not Answered
Chosen Option : --

Q.6 Select the most appropriate synonym of the given word.

Ideal

- Ans 1. Excellent
 2. Bad
 3. Hefty
 4. Intact

Question ID : 26433088925
Status : Not Answered
Chosen Option : --

Q.7 Select the INCORRECTLY spelt word.

- Ans 1. Miraculous
 2. Vision
 3. Skulptor
 4. Succeed

Question ID : 26433073733

Status : Not Answered

Chosen Option : --

Q.8 Select the most appropriate meaning of the underlined idiom in the given sentence.

Siraj-ud Daula's defeat can be attributed to a snake in the grass.

- Ans 1. A disloyal soldier
 2. A deceitful person
 3. A coiled serpent
 4. A devoted attendant

Question ID : 26433071996

Status : Not Answered

Chosen Option : --

Q.9 Select the most appropriate option that can substitute the underlined segment in the given sentence. If there is no need to substitute it, select 'No substitution'.

I visited the hospital to enquire about eyes surgery.

- Ans 1. No substitution
 2. enquired about eye surgery
 3. enquire about eye surgery
 4. enquire for eyes surgery

Question ID : 26433093072

Status : Not Answered

Chosen Option : --

Q.10 Select the most appropriate synonym for the underlined word in the given sentence.

An oxygen cylinder is used to deliver oxygen through the patient's nasal orifice.

- Ans 1. opening
 2. ornate
 3. origin
 4. ordained

Question ID : 26433073754

Status : Not Answered

Chosen Option : --

Q.11 Select the most appropriate meaning of the given idiom.

To call in question

- Ans
- 1. Show indifference
 - 2. Dislike the arrangement
 - 3. Take a resolute stand
 - 4. Challenge

Question ID : 26433073874
Status : Not Answered
Chosen Option : --

Q.12 Select the most appropriate ANTONYM of the given word.

Feeble

- Ans
- 1. Sturdy
 - 2. Anxious
 - 3. Weak
 - 4. Curious

Question ID : 26433073918
Status : Not Answered
Chosen Option : --

Q.13 Select the most appropriate ANTONYM of the given word.

Compassionate

- Ans
- 1. Fashionable
 - 2. Cruel
 - 3. Likeable
 - 4. Merciful

Question ID : 26433072211
Status : Not Answered
Chosen Option : --

Q.14 Select the most appropriate option that can substitute the underlined segment in the given sentence.

My uncle has an extremely large bungalow which has six bedrooms, five bathrooms and four living rooms.

- Ans
- 1. enormous
 - 2. great
 - 3. meagre
 - 4. oversize

Question ID : 26433086460
Status : Not Answered
Chosen Option : --

Q.15 Select the most appropriate ANTONYM of the bracketed word to fill in the blank.

The medicine was so _____ (sweet) that a man had to choose sugar along with it.

- Ans
- 1. rancid
 - 2. sour
 - 3. stale
 - 4. fetid

Question ID : 26433060720

Status : Not Answered

Chosen Option : --

Comprehension:

In the following passage, some words have been deleted. Read the passage carefully and select the most appropriate option to fill in each blank.

One certain benefit of online communication either through email or even communicating through WhatsApp nowadays is that there is a (1) _____ dependence on paper. It is said that to make a ton of paper 17 trees have to be cut down. With the already existing demand for paper to meet (2) _____ needs, it would be horrendous to keep (3) _____ the demand for paper worldwide. Online communication is a boon as many documents are now sent by mail through PDF, Microsoft Word or the JPEG format. This means that there is certainly a (4) _____ in the use of paper due to online communication. Many people read online newspapers nowadays, which means there is a decline in the number of people buying offline versions of (5) _____.

SubQuestion No : 16

Q.16 Select the most appropriate option to fill in blank number 1.

- Ans
- 1. dress
 - 2. restless
 - 3. less
 - 4. crest

Question ID : 26433088749

Status : Not Answered

Chosen Option : --

Comprehension:

In the following passage, some words have been deleted. Read the passage carefully and select the most appropriate option to fill in each blank.

One certain benefit of online communication either through email or even communicating through WhatsApp nowadays is that there is a (1) _____ dependence on paper. It is said that to make a ton of paper 17 trees have to be cut down. With the already existing demand for paper to meet (2) _____ needs, it would be horrendous to keep (3) _____ the demand for paper worldwide. Online communication is a boon as many documents are now sent by mail through PDF, Microsoft Word or the JPEG format. This means that there is certainly a (4) _____ in the use of paper due to online communication. Many people read online newspapers nowadays, which means there is a decline in the number of people buying offline versions of (5) _____.

SubQuestion No : 17

Q.17 Select the most appropriate option to fill in blank number 2.

- Ans 1. rare
 2. various
 3. controversial
 4. handle

Question ID : 26433088750
Status : Not Answered
Chosen Option : --

Comprehension:

In the following passage, some words have been deleted. Read the passage carefully and select the most appropriate option to fill in each blank.

One certain benefit of online communication either through email or even communicating through WhatsApp nowadays is that there is a (1) _____ dependence on paper. It is said that to make a ton of paper 17 trees have to be cut down. With the already existing demand for paper to meet (2) _____ needs, it would be horrendous to keep (3) _____ the demand for paper worldwide. Online communication is a boon as many documents are now sent by mail through PDF, Microsoft Word or the JPEG format. This means that there is certainly a (4) _____ in the use of paper due to online communication. Many people read online newspapers nowadays, which means there is a decline in the number of people buying offline versions of (5) _____.

SubQuestion No : 18

Q.18 Select the most appropriate option to fill in blank number 3.

- Ans 1. depriving
 2. increasing
 3. planning
 4. contriving

Question ID : 26433088751
Status : Not Answered
Chosen Option : --

Comprehension:

In the following passage, some words have been deleted. Read the passage carefully and select the most appropriate option to fill in each blank.

One certain benefit of online communication either through email or even communicating through WhatsApp nowadays is that there is a (1) _____ dependence on paper. It is said that to make a ton of paper 17 trees have to be cut down. With the already existing demand for paper to meet (2) _____ needs, it would be horrendous to keep (3) _____ the demand for paper worldwide. Online communication is a boon as many documents are now sent by mail through PDF, Microsoft Word or the JPEG format. This means that there is certainly a (4) _____ in the use of paper due to online communication. Many people read online newspapers nowadays, which means there is a decline in the number of people buying offline versions of (5) _____.

SubQuestion No : 19

Q.19 Select the most appropriate option to fill in blank number 4.

- Ans** 1. induction
 2. traction
 3. reduction
 4. gumption

Question ID : 26433088752
Status : Not Answered
Chosen Option : --

Comprehension:

In the following passage, some words have been deleted. Read the passage carefully and select the most appropriate option to fill in each blank.

One certain benefit of online communication either through email or even communicating through WhatsApp nowadays is that there is a (1) _____ dependence on paper. It is said that to make a ton of paper 17 trees have to be cut down. With the already existing demand for paper to meet (2) _____ needs, it would be horrendous to keep (3) _____ the demand for paper worldwide. Online communication is a boon as many documents are now sent by mail through PDF, Microsoft Word or the JPEG format. This means that there is certainly a (4) _____ in the use of paper due to online communication. Many people read online newspapers nowadays, which means there is a decline in the number of people buying offline versions of (5) _____.

SubQuestion No : 20

Q.20 Select the most appropriate option to fill in blank number 5.

- Ans** 1. newspapers
 2. canvas
 3. magazines
 4. fliers

Question ID : 26433088753
Status : Not Answered
Chosen Option : --

Q.1 निम्नलिखित वाक्य के किस भाग में वर्तनी सम्बन्धी त्रुटि है?
'आजकल दिल्ली के प्रगति मैदान में हस्तशिल्प प्रदर्शनी चल रही है।'

- Ans
- 1. प्रगति मैदान में
 - 2. आजकल दिल्ली के
 - 3. चल रही है।
 - 4. हस्तशिल्प प्रदर्शनी

Question ID : 26433063025
Status : Not Answered
Chosen Option : --

Q.2 मुहावरों और उनके अर्थ का निम्नलिखित में से कौन सा युग्म सही है?

- Ans
- 1. दिन का फेर होना-दिनभर भटकते रहना
 - 2. दाल न गलना-पूरा बस चलना
 - 3. त्रिशंकु होना-अधर में लटकते रहना
 - 4. दो दिन का मेहमान-लम्बे समय तक जीना

Question ID : 26433062559
Status : Answered
Chosen Option : 3

Q.3 'निरक्षर' शब्द का विलोम क्या होगा?

- Ans
- 1. साक्षर
 - 2. अनपढ़
 - 3. अपढ़
 - 4. महान

Question ID : 26433067090
Status : Answered
Chosen Option : 1

Q.4 'गंगा नदी भारत देश में हजारों लोगों की जीवनदायिनी है।' निम्नलिखित में से कौन सा शब्द 'गंगा' का पर्यायवाची शब्द नहीं है।

- Ans
- 1. सुरसरिता
 - 2. देवपगा
 - 3. हंसजा
 - 4. विष्णुपदी

Question ID : 26433069737
Status : Answered
Chosen Option : 3

Q.5 निम्नलिखित में से अशुद्ध वाक्य कौन-सा है?

- Ans
- 1. सुमेध आज छुट्टी पर है।
 - 2. अंजना ने नई साड़ी खरीदी।
 - 3. कोयल पेड़ में बैठी है।
 - 4. वसुंधरा बहुत सुरीला गाती है।

Question ID : 26433066989

Status : Answered

Chosen Option : 3

Q.6 'सारे शरीर की हड्डियों का ढांचा' वाक्यांश के लिए सार्थक शब्द है-

- Ans
- 1. शरीर की हड्डियां
 - 2. कंकाल
 - 3. हड्डी का ढांचा
 - 4. मांसपेशी

Question ID : 26433062224

Status : Answered

Chosen Option : 2

Q.7 निम्न विकल्पों में से अशुद्ध वाक्य छाँटिए।

- Ans
- 1. शीला को नाटक अच्छा लगा।
 - 2. लड़की पुस्तक पढ़ती है।
 - 3. मुझे उस पर दया आती है।
 - 4. लड़के ने घर जाना है।

Question ID : 26433063035

Status : Answered

Chosen Option : 4

Q.8 'आफिसर ने कर्मचारी को फ़ाइल लाने का आदेश दिया।' इस वाक्य में प्रयुक्त 'आदेश' शब्द का अर्थ क्या है?

- Ans
- 1. छोटों को बहकाना
 - 2. अपने कर्मचारियों की अवज्ञा करना
 - 3. आज्ञा पालन के लिए कहना
 - 4. अपने से छोटों को डांटना

Question ID : 26433080915

Status : Answered

Chosen Option : 3

Q.9 निम्नलिखित वाक्य के रेखांकित अंश के स्थान पर विकल्पों में सबसे उपयुक्त शब्द का चयन कीजिए।
शोक है कि मैं आपके पत्र का उत्तर नहीं दे सका।

- Ans
- 1. खेद
 - 2. खुशी
 - 3. कष्ट
 - 4. पता

Question ID : 26433066868
Status : Answered
Chosen Option : 1

Q.10 'जो कहा गया है' वाक्यांश के लिए सार्थक शब्द है-

- Ans
- 1. अकथ्य
 - 2. कल्पित
 - 3. वचनातीत
 - 4. कथित

Question ID : 26433065864
Status : Answered
Chosen Option : 4

Q.11 तब की बात कुछ और थी। फिर ऐसा नहीं होगा।
उपरोक्त वाक्य में प्रयुक्त 'तब', 'फिर' समानार्थक क्रिया-विशेषणों के सही अर्थ क्या हैं?

- Ans
- 1. 'तब' का अर्थ बाद में और 'फिर' का अर्थ बार – बार
 - 2. 'तब' का अर्थ उस समय और 'फिर' का अर्थ दुबारा
 - 3. 'तब' का अर्थ कहाँ और 'फिर' का अर्थ वर्तमान
 - 4. 'तब' का अर्थ उस समय और 'फिर' का अर्थ अलग

Question ID : 26433079232
Status : Answered
Chosen Option : 2

Q.12 विकल्पों में से निम्नलिखित वाक्यांश के लिए उपयुक्त शब्द चुनें।
जो इंद्रियों से परे हो

- Ans
- 1. अतींद्रिय
 - 2. कर्मेन्द्रिय
 - 3. जितेन्द्रिय
 - 4. ज्ञानेन्द्रिय

Question ID : 26433069992
Status : Answered
Chosen Option : 1

Q.13 निम्नलिखित मुहावरे के लिए उपयुक्त सार्थक शब्द है-
टका-सा जवाब देना

- Ans
- 1. बहाना करना
 - 2. हिचकना
 - 3. साफ इंकार करना
 - 4. लालच देना

Question ID : 26433065771

Status : Answered

Chosen Option : 3

Q.14 निम्नलिखित वाक्य के किस भाग में शब्द-चयन सम्बन्धी अशुद्धि है?
'हिन्दी के प्रचार में बहुत बड़े-बड़े संकट हैं।'

- Ans
- 1. हिन्दी के
 - 2. बहुत
 - 3. प्रचार में
 - 4. बड़े-बड़े संकट हैं।

Question ID : 26433062806

Status : Answered

Chosen Option : 2

Q.15 सिंह की सवारी सबके बस की बात नहीं है।
उस विकल्प का चयन कीजिए जो उपरोक्त वाक्य में रेखांकित शब्द का पर्यायवाची शब्द नहीं है।

- Ans
- 1. मणि
 - 2. सिंह
 - 3. वनराज
 - 4. केसरी

Question ID : 26433091341

Status : Answered

Chosen Option : 1

Comprehension:

निम्नलिखित गद्यांश में कुछ शब्दों को हटा दिया गया है। दिए गए विकल्पों की सहायता से रिक्त स्थानों की पूर्ति कीजिए। प्रत्येक संख्या के लिए सबसे उपयुक्त विकल्प का चयन करें।

वैसे तो सभी आयु-वर्ग के लोग अपने-अपने जन्मदिन 1. _____ मनाते हैं, पर बच्चों में इस दिन को मनाने की उत्सुकता कुछ 2. _____ ही होती है। पूरे वर्ष वे इस दिन की 3. _____ करते रहते हैं। जब भी किसी के जन्मदिन में 4. _____ होते हैं लौटकर ज़रूर पूछते हैं कि हमारा जन्मदिन कब मनाया जाएगा। जन्मदिन पर घर को सजाया जाता है। इस दिन सभी मित्र 5. _____ होते हैं।

SubQuestion No : 16

Q.16 रिक्त स्थान 1 की पूर्ति के लिए सबसे उपयुक्त विकल्प का चयन कीजिए।

- Ans
- 1. स्वाभाविक
 - 2. उत्सुकता
 - 3. प्रसन्नतापूर्वक
 - 4. रोज़

Question ID : 264330111083

Status : Answered

Chosen Option : 3

Comprehension:

निम्नलिखित गद्यांश में कुछ शब्दों को हटा दिया गया है। दिए गए विकल्पों की सहायता से रिक्त स्थानों की पूर्ति कीजिए। प्रत्येक संख्या के लिए सबसे उपयुक्त विकल्प का चयन करें।

वैसे तो सभी आयु-वर्ग के लोग अपने-अपने जन्मदिन 1. _____ मनाते हैं, पर बच्चों में इस दिन को मनाने की उत्सुकता कुछ 2. _____ ही होती है। पूरे वर्ष वे इस दिन की 3. _____ करते रहते हैं। जब भी किसी के जन्मदिन में 4. _____ होते हैं लौटकर ज़रूर पूछते हैं कि हमारा जन्मदिन कब मनाया जाएगा। जन्मदिन पर घर को सजाया जाता है। इस दिन सभी मित्र 5. _____ होते हैं।

SubQuestion No : 17

Q.17 रिक्त स्थान 2 की पूर्ति के लिए सबसे उपयुक्त विकल्प का चयन कीजिए।

- Ans
- 1. अधिक
 - 2. प्रायः
 - 3. हमेशा
 - 4. कम

Question ID : 264330111084

Status : Answered

Chosen Option : 1

Comprehension:

निम्नलिखित गद्यांश में कुछ शब्दों को हटा दिया गया है। दिए गए विकल्पों की सहायता से रिक्त स्थानों की पूर्ति कीजिए। प्रत्येक संख्या के लिए सबसे उपयुक्त विकल्प का चयन करें।

वैसे तो सभी आयु-वर्ग के लोग अपने-अपने जन्मदिन 1. _____ मनाते हैं, पर बच्चों में इस दिन को मनाने की उत्सुकता कुछ 2. _____ ही होती है। पूरे वर्ष वे इस दिन की 3. _____ करते रहते हैं। जब भी किसी के जन्मदिन में 4. _____ होते हैं लौटकर ज़रूर पूछते हैं कि हमारा जन्मदिन कब मनाया जाएगा। जन्मदिन पर घर को सजाया जाता है। इस दिन सभी मित्र 5. _____ होते हैं।

SubQuestion No : 18

Q.18 रिक्त स्थान 3 की पूर्ति के लिए सबसे उपयुक्त विकल्प का चयन कीजिए।

- Ans 1. विकसित
 2. प्रतीक्षा
 3. सार्थकता
 4. सहायता

Question ID : 264330111085

Status : Answered

Chosen Option : 2

Comprehension:

निम्नलिखित गद्यांश में कुछ शब्दों को हटा दिया गया है। दिए गए विकल्पों की सहायता से रिक्त स्थानों की पूर्ति कीजिए। प्रत्येक संख्या के लिए सबसे उपयुक्त विकल्प का चयन करें।

वैसे तो सभी आयु-वर्ग के लोग अपने-अपने जन्मदिन 1. _____ मनाते हैं, पर बच्चों में इस दिन को मनाने की उत्सुकता कुछ 2. _____ ही होती है। पूरे वर्ष वे इस दिन की 3. _____ करते रहते हैं। जब भी किसी के जन्मदिन में 4. _____ होते हैं लौटकर ज़रूर पूछते हैं कि हमारा जन्मदिन कब मनाया जाएगा। जन्मदिन पर घर को सजाया जाता है। इस दिन सभी मित्र 5. _____ होते हैं।

SubQuestion No : 19

Q.19 रिक्त स्थान 4 की पूर्ति के लिए सबसे उपयुक्त विकल्प का चयन कीजिए।

- Ans 1. सामाजिक
 2. अभिव्यक्त
 3. विचलित
 4. सम्मिलित

Question ID : 264330111086

Status : Answered

Chosen Option : 4

Comprehension:

निम्नलिखित गद्यांश में कुछ शब्दों को हटा दिया गया है। दिए गए विकल्पों की सहायता से रिक्त स्थानों की पूर्ति कीजिए। प्रत्येक संख्या के लिए सबसे उपयुक्त विकल्प का चयन करें।

वैसे तो सभी आयु-वर्ग के लोग अपने-अपने जन्मदिन 1. _____ मनाते हैं, पर बच्चों में इस दिन को मनाने की उत्सुकता कुछ 2. _____ ही होती है। पूरे वर्ष वे इस दिन की 3. _____ करते रहते हैं। जब भी किसी के जन्मदिन में 4. _____ होते हैं लौटकर ज़रूर पूछते हैं कि हमारा जन्मदिन कब मनाया जाएगा। जन्मदिन पर घर को सजाया जाता है। इस दिन सभी मित्र 5. _____ होते हैं।

SubQuestion No : 20

Q.20 रिक्त स्थान 5 की पूर्ति के लिए सबसे उपयुक्त विकल्प का चयन कीजिए।

- Ans 1. एकत्रित
 2. प्रेरणा
 3. प्रसिद्धि
 4. संबंधित

Question ID : 264330111087

Status : Answered

Chosen Option : 1

KD Job Updates

Constable GD in CAPFs SSF Rifleman GD in Assam Rifles and Sepoy in NCB Examination 2022

Roll Number	KD Job Updates
Candidate Name	KD Job Updates
Venue Name	iON Digital Zone iDZ4 Patliputra
Exam Date	11/01/2023
Exam Time	11:45 AM - 12:45 PM
Subject	Constable GD Examination 2022

Section : Part-A-General Intelligence and Reasoning

Q.1 तीन कथनों के बाद तीन निष्कर्ष I, II और III दिए गए हैं। कथनों को सत्य मानते हुए, भले ही वे सामान्य रूप से ज्ञात तथ्यों से भिन्न प्रतीत होते हों, निर्णय लीजिए कि कौन-सा/से निष्कर्ष कथनों का तार्किक रूप से अनुसरण करता/करते है/हैं।

कथन:

सभी डिब्बे कुत्ते हैं।

कुछ कुत्ते चूहे हैं।

कुछ चूहे सेब हैं।

निष्कर्ष:

I. कोई डिब्बा कुत्ता नहीं है।

II. कुछ चूहे कुत्ते नहीं हैं।

III. कुछ सेब चूहे हैं।

- Ans
- 1. केवल निष्कर्ष III अनुसरण करता है।
 - 2. कोई भी निष्कर्ष अनुसरण नहीं करता है।
 - 3. केवल निष्कर्ष I अनुसरण करता है।
 - 4. केवल निष्कर्ष II अनुसरण करता है।

Question ID : 26433081790

Status : Answered

Chosen Option : 1

Q.2 निम्नलिखित में से कौन-सी संख्या दी गई श्रृंखला में प्रश्न-चिह्न (?) के स्थान पर आएगी?
5, 11, 23, 47, 95, ?

- Ans
- 1. 196
 - 2. 161
 - 3. 181
 - 4. 191

Question ID : 26433082015

Status : Answered

Chosen Option : 4

Q.3 एक निश्चित कूट भाषा में 'CLUTCH' को 'DNXXHN' के रूप में लिखा जाता है और 'CREDIT' को 'DTHHNZ' के रूप में लिखा जाता है। उसी भाषा में 'WALLET' को किस प्रकार लिखा जाएगा?

- Ans
- 1. XCPOJZ
 - 2. XOCPJZ
 - 3. XCOJPZ
 - 4. XCOPJZ

Question ID : 26433068226
Status : Answered
Chosen Option : 4

Q.4 दिए गए विकल्पों में से उस अक्षर-समूह का चयन कीजिए जो निम्न श्रृंखला में प्रश्न-चिह्न (?) के स्थान पर आ सकता है।
HS, PK, XC, FU, ?

- Ans
- 1. MN
 - 2. NM
 - 3. PN
 - 4. PM

Question ID : 26433079037
Status : Answered
Chosen Option : 2

Q.5 उस विकल्प का चयन करें जो पांचवें अक्षर-समूह से उसी प्रकार संबंधित है जिस प्रकार दूसरा अक्षर-समूह पहले अक्षर-समूह से संबंधित है और चौथा अक्षर-समूह तीसरे अक्षर-समूह से संबंधित है।
DGS : PEC :: NST : QQM :: EHK : ?

- Ans
- 1. HFD
 - 2. NFD
 - 3. HJF
 - 4. JFB

Question ID : 26433057743
Status : Answered
Chosen Option : 1

Q.6 निम्नलिखित में से कौन सा विकल्प दी गई श्रृंखला में प्रश्न चिह्न (?) को प्रतिस्थापित करेगा?
416, 341, 276, ?, 176, 141, 116

- Ans
- 1. 211
 - 2. 201
 - 3. 196
 - 4. 221

Question ID : 26433089438
Status : Answered
Chosen Option : 4

Q.7 एक निश्चित कूट भाषा में, 'COMBAT' को 'NPDVCD' के रूप में लिखा जाता है और 'CREATE' को 'FSDGVC' के रूप में लिखा जाता है। उसी भाषा में 'CREDIT' को कैसे लिखा जाएगा?

- Ans
- 1. ERCTID
 - 2. TIDERC
 - 3. FSDVKF
 - 4. ERCVKF

Question ID : 26433090040
Status : Answered
Chosen Option : 3

Q.8 नीचे दिए गए समीकरण को गणितीय रूप से सही बनाने के लिए किन दो चिन्हों को परस्पर बदलना चाहिए?

$$54 \times 8 - 48 \div 12 + 27 = 24$$

- Ans
- 1. \div और $-$
 - 2. $+$ और \div
 - 3. $+$ और \times
 - 4. $-$ और $+$

Question ID : 264330117556
Status : Answered
Chosen Option : 2

KD Job Updates

Q.9 दिए गए विकल्पों में से उस आकृति का चयन करें जो निम्न श्रृंखला में

प्रश्नवाचक चिन्ह (?) के स्थान पर आ सकती है।

X ↑ = C	= C M ↑	M ↑ ☆ C	☆ C S ↑	?
------------------	------------------	------------------	------------------	---

Ans

✓ 1.

S ↑ T C

✗ 2.

S ↑ ☆ C

✗ 3.

S ↑ C T

✗ 4.

↑ S T C

Question ID : 26433080755

Status : Answered

Chosen Option : 1

Q.10 निम्नलिखित में से कौन-सा पद दी गई श्रृंखला में प्रश्न-चिह्न (?) के स्थान पर आएगा?
QCSD, ?, WGQZ, ZIPX, CKOV

Ans ✗ 1. RETB

✓ 2. TERB

✗ 3. ERTB

✗ 4. BTER

Question ID : 26433068987

Status : Answered

Chosen Option : 2

Q.11 गणितीय चिह्नों के उस सही संयोजन का चयन कीजिए जिसे क्रमिक रूप से * चिह्नों के स्थान पर रखने पर समीकरण संतुलित हो जाएगा।
 $14 * 1 * 15 * 75 * 21 = 30$

Ans 1. -, ÷, ×, +

2. -, ×, +, ÷

3. ×, ÷, +, -

4. ÷, -, +, ×

Question ID : 26433091646

Status : Answered

Chosen Option : 1

Q.12 आठ व्यक्ति, A, B, C, D, E, F, G और H एक सीधी पंक्ति में उत्तर की ओर मुख करके बैठे हैं। A के बाईं ओर केवल तीन व्यक्ति बैठे हैं। B, A के दाईं ओर तीसरे स्थान पर बैठा है। B और D के बीच केवल चार व्यक्ति बैठे हैं। F, G के दाईं ओर ठीक बगल में बैठा है। C, पंक्ति के किसी भी सिरे पर नहीं बैठा है। E, H के दाईं ओर किसी एक स्थान पर बैठा है। H और A के बीच कितने व्यक्ति बैठे हैं?

Ans 1. एक

2. तीन

3. दो

4. कोई नहीं

Question ID : 26433092419

Status : Answered

Chosen Option : 3

Q.13 'P % Q' का अर्थ है 'P, Q का भाई है'।
'P + Q' का अर्थ है 'P, Q की बेटी है'।
'P = Q' का अर्थ है 'P, Q का बेटा है'।
'P # Q' का अर्थ है 'P, Q की पत्नी है'।
यदि $A + B \% C = D \# F$ है, तो F, A से किस प्रकार संबंधित है?

Ans 1. ताई/चाची

2. नानी

3. दादा

4. ताऊ/चाचा

Question ID : 26433086999

Status : Answered

Chosen Option : 3

Q.14 उस विकल्प का चयन कीजिए जो नीचे दिए गए शब्दों के उस क्रम को निरूपित करता है जिस क्रम में वे अंग्रेजी शब्दकोश में आते हैं।

1. PURVEY
2. PURSE
3. PURPLE
4. PURELY
5. PUTTER
6. PUSTULE

- Ans
- 1. 3, 4, 2, 1, 6, 5
 - 2. 6, 5, 4, 3, 2, 1
 - 3. 4, 3, 2, 1, 6, 5
 - 4. 3, 4, 2, 1, 5, 6

Question ID : 26433079377

Status : Answered

Chosen Option : 3

Q.15 आठ व्यक्ति दो समानांतर पंक्तियों में, प्रत्येक में 4 व्यक्ति के अनुसार इस प्रकार बैठे हैं कि आसन्न व्यक्तियों के बीच की दूरी समान है तथा एक पंक्ति के व्यक्ति दूसरी पंक्ति के व्यक्तियों की ओर मुख करके बैठे हुए हैं।

पंक्ति I में - 6, 7, 8 और 9 बैठे हैं, और उन सभी का मुख दक्षिण की ओर है।

पंक्ति II में - 1, 2, 3 और 4 बैठे हैं, और उन सभी का मुख उत्तर की ओर है।

9, उनकी पंक्ति के अंतिम बाएं सिरे पर बैठे व्यक्ति के बगल में बैठा है, और 4 के ठीक सामने है। 3

उनकी पंक्ति के अंतिम बाएं सिरे पर बैठा है, और 2 उसके ठीक बगल में है।

उत्तर की ओर मुख करके बैठी पंक्ति के अंतिम दाएं सिरे पर कौन बैठा है?

- Ans
- 1. 2
 - 2. 1
 - 3. 3
 - 4. 4

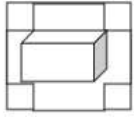
Question ID : 26433068743

Status : Answered

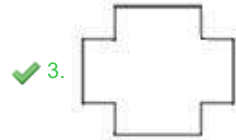
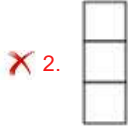
Chosen Option : 2

Q.16 उस विकल्प का चयन कीजिए, जो दी गई आकृति में अंतर्निहित है (घूमाने की

अनुमति नहीं है)।



Ans



Question ID : 26433082899

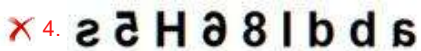
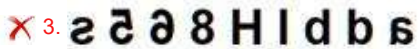
Status : Answered

Chosen Option : 3

Q.17 दर्पण को चित्र में दिखाए अनुसार MN पर रखे जाने पर दी गई आकृति के सही दर्पण प्रतिबिंब का चयन करें।



Ans

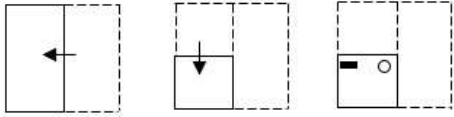


Question ID : 26433082329

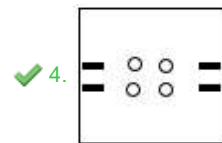
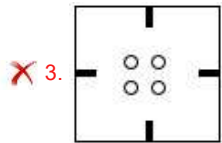
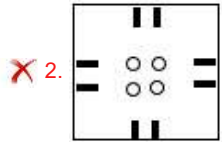
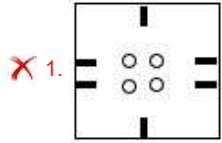
Status : Answered

Chosen Option : 2

Q.18 एक कागज को नीचे दर्शाए गए अनुसार मोड़ा और काटा जाता है। खोले जाने पर यह कैसा दिखाई देगा?



Ans



Question ID : 26433090087

Status : Answered

Chosen Option : 2

Q.19 निम्नलिखित में से उस विकल्प का चयन कीजिए, जो पाँचवें अक्षर-समूह से उसी प्रकार से संबंधित है, जिस प्रकार दूसरा अक्षर-समूह पहले अक्षर-समूह से और चौथा अक्षर-समूह तीसरे अक्षर-समूह से संबंधित है।

MUZHUK : KVMXIGI :: QUACKY : OVYDIW :: ZEBECK : ?

Ans ✗ 1. IAFZFX

✓ 2. XFZFAL

✗ 3. XAIFZF

✗ 4. XFFZAI

Question ID : 26433083107

Status : Answered

Chosen Option : 2

Q.20 उस समुच्चय का चयन करें, जिसकी संख्याओं के बीच ठीक वही संबंध है, जो संबंध निम्नांकित समुच्चयों की संख्याओं में है।
(नोट: संख्याओं को उसके घटक अंकों में विभाजित किए बिना, पूर्ण संख्याओं पर ही गणितीय संक्रियाएँ की जानी चाहिए। जैसे 13 - मान लीजिए 13 पर गणितीय संक्रियाएँ जैसे कि 13 में जोड़ना/घटाना/गुणा करना आदि किया जा सकता है। 13 को 1 और 3 में तोड़कर और फिर 1 और 3 पर गणितीय संक्रियाएँ करने की अनुमति नहीं है।)
(6, 135, 9)
(13, 261, 16)

- Ans
- 1. (9, 224, 19)
 - 2. (9, 190, 13)
 - 3. (7, 216, 17)
 - 4. (11, 249, 16)

Question ID : 26433076544
Status : Answered
Chosen Option : 3

Section : Part-B-General Knowledge and General awareness

Q.1 लॉर्ड डलहौजी ने विलय नीति के तहत किस वर्ष झाँसी का विलय किया था?

- Ans
- 1. 1854
 - 2. 1848
 - 3. 1850
 - 4. 1852

Question ID : 26433099172
Status : Answered
Chosen Option : 4

Q.2 एम चिन्नास्वामी क्रिकेट स्टेडियम किस शहर में स्थित है?

- Ans
- 1. कोलकाता
 - 2. मुंबई
 - 3. बेंगलुरु
 - 4. दिल्ली

Question ID : 26433092327
Status : Answered
Chosen Option : 3

Q.3 निम्नलिखित में से किस शख्सियत को वर्ष 2019 में कथकली नृत्य शैली में उनके योगदान के लिए पद्म श्री से सम्मानित किया गया?

- Ans
- 1. मिलिना साल्विनी
 - 2. शोभना नारायण
 - 3. वैभवी मर्चेट
 - 4. गीता कपूर

Question ID : 26433070807
Status : Answered
Chosen Option : 1

Q.4 भारत के संविधान के निम्नलिखित में से किस भाग में मूल अधिकार सन्निहित हैं?

- Ans 1. III
 2. IV
 3. II
 4. I

Question ID : 26433054894
Status : Answered
Chosen Option : 1

Q.5 प्रधान मंत्री नरेन्द्र मोदी ने _____ में जल जीवन मिशन का शुभारंभ किया।

- Ans 1. 2014
 2. 2018
 3. 2019
 4. 2022

Question ID : 264330116188
Status : Answered
Chosen Option : 1

Q.6 लक्ष्य सेन किस खेल के खिलाड़ी हैं?

- Ans 1. क्रिकेट
 2. बैडमिंटन
 3. टेबल टेनिस
 4. कबड्डी

Question ID : 264330115946
Status : Not Answered
Chosen Option : --

Q.7 1992 में, सबसे कम आयु में पद्म भूषण प्राप्त करने वाले नर्तक/नर्तकी का नाम निम्न में से क्या था?

- Ans 1. अनुराधा पाण्डेय
 2. सोनल मानसिंह
 3. उदय शंकर
 4. पंडित बिरजू महाराज

Question ID : 264330115842
Status : Answered
Chosen Option : 1

Q.8 विश्व के कुल पृष्ठीय क्षेत्रफल में भारत का कितना हिस्सा है?

- Ans 1. 3.9%
 2. 2.4%
 3. 4.2%
 4. 2.8%

Question ID : 264330116051
Status : Answered
Chosen Option : 2

Q.9 कौन सा विकल्प बुलिमिया का सबसे अच्छा वर्णन करता है?

- Ans
- 1. चिंता संबंधी विकार
 - 2. खाने संबंधी विकार
 - 3. तंत्रिकाविकास संबंधी विकार
 - 4. बाइपोलर विकार

Question ID : 264330115225
Status : Not Answered
Chosen Option : --

Q.10 उत्तर भारत के लोग किस त्योहार पर देवी लक्ष्मी और भगवान गणेश की एक साथ पूजा करते हैं?

- Ans
- 1. होली
 - 2. दशहरा
 - 3. दिवाली
 - 4. जन्माष्टमी

Question ID : 264330109310
Status : Answered
Chosen Option : 3

Q.11 भारत के संविधान के अनुच्छेद 243 के अनुसार, _____ का अर्थ है ग्रामीण क्षेत्रों के लिए अनुच्छेद 243ख के अधीन गठित स्वाता शासन वाली एक संस्था।

- Ans
- 1. ग्राम सभा
 - 2. पंचायत
 - 3. नगर निगम
 - 4. म्युनिस्पल कमेटी

Question ID : 26433086833
Status : Answered
Chosen Option : 2

Q.12 निम्नलिखित में से कौन सा संगठन भारत में निर्धनता रेखा का आकलन करने के प्रतिदर्श सर्वेक्षण कौन करता है?

- Ans
- 1. एन. एस. एस. औ.
 - 2. वित्त मंत्रालय
 - 3. आर. बी. आई.
 - 4. सी. एस. औ.

Question ID : 264330115343
Status : Not Answered
Chosen Option : --

Q.13 निम्नलिखित में से कौन अप्रैल 2022 में भारत में खैरागढ़, छत्तीसगढ़ से विधान सभा के सदस्य बने?

- Ans 1. यशोदा वर्मा
 2. बंधु तिकी
 3. मनोज सिंह मंडावी
 4. मुसाफिर पासवान

Question ID : 264330114960
Status : Not Answered
Chosen Option : --

Q.14 कृषि में गाय के गोबर का उपयोग _____ के रूप में किया जाता है।

- Ans 1. जैविक उर्वरक
 2. अपशिष्ट पदार्थ
 3. अजैविक उर्वरक
 4. रासायनिक उर्वरक

Question ID : 264330115422
Status : Answered
Chosen Option : 1

Q.15 जून 2022 में, मंत्रिमंडल की नियुक्ति समिति (ACC) द्वारा राष्ट्रीय जांच एजेंसी के महानिदेशक के रूप में किसे नियुक्त किया गया?

- Ans 1. आमिर सुभामी
 2. दिनकर गुप्ता
 3. अरुण मिश्रा
 4. नरेश कुमार

Question ID : 264330115046
Status : Answered
Chosen Option : 3

Q.16 कौन-सा जलमार्ग अटलांटिक महासागर को प्रशांत महासागर से जोड़ता है?

- Ans 1. स्वेज़ नहर
 2. पनामा नहर
 3. कील नहर
 4. वोल्गा-डॉन नहर

Question ID : 264330116014
Status : Answered
Chosen Option : 1

Q.17 एक बर्तन लंबे समय तक नम हवा के संपर्क में रहता है। यह एक हल्की, हरी कोटिंग प्राप्त करता है। बर्तन किससे बना हुआ है?

- Ans
- 1. कार्बन
 - 2. फास्फोरस
 - 3. लोह
 - 4. ताँबा

Question ID : 264330115179
Status : Answered
Chosen Option : 3

Q.18 देश की स्वतंत्रता से पहले, भारत मुख्य रूप से अपने _____ उद्योगों के लिए जाना जाता था।

- Ans
- 1. मसाले के
 - 2. पुष्प के
 - 3. हस्तशिल्प के
 - 4. धातु के

Question ID : 264330116137
Status : Answered
Chosen Option : 1

Q.19 कच्चे तेल, पेट्रोलियम उत्पादों और प्राकृतिक गैस को स्थानांतरित करने के लिए अब परिवहन के किस साधन का उपयोग किया जा रहा है?

- Ans
- 1. केबल
 - 2. हवाई मार्ग
 - 3. बस
 - 4. पाइपलाइन

Question ID : 264330115590
Status : Answered
Chosen Option : 4

Q.20 _____ ने हर्षवर्धन के दरबार में बहुत समय बिताया और उन्होंने जो कुछ देखा उसका विस्तृत विवरण दिया।

- Ans
- 1. फ़ाहियान
 - 2. श्वेन त्सांग
 - 3. यिजिंग
 - 4. कांग सेंग

Question ID : 264330106592
Status : Answered
Chosen Option : 1

Q.1 एक कंपनी तीन प्रकार की क्रमिक छूट प्रदान करती है: प्रथम ऑफर : 25% और 5%, दूसरी ऑफर : 20% और 10%, तीसरी ऑफर : 15% और 15%, ग्राहक के लिए कौन-सी ऑफर सबसे अच्छी है?

- Ans
- 1. दूसरी ऑफर
 - 2. सभी ऑफर समान हैं
 - 3. तीसरी ऑफर
 - 4. प्रथम ऑफर

Question ID : 26433075190
Status : Answered
Chosen Option : 3

Q.2 A एक कार्य को 72 दिनों में और B 90 दिनों में कर सकता है। उन्होंने 30 दिनों तक एक साथ कार्य किया और फिर B ने छोड़ दिया। शेष कार्य को पूरा करने के लिए A द्वारा लिए गए दिन ज्ञात करें।

- Ans
- 1. 18 दिन
 - 2. 14 दिन
 - 3. 16 दिन
 - 4. 17 दिन

Question ID : 264330116872
Status : Answered
Chosen Option : 1

Q.3 8, 16, 20 और 32 से विभाज्य सबसे छोटी संख्या ज्ञात करें।

- Ans
- 1. 160
 - 2. 144
 - 3. 200
 - 4. 120

Question ID : 26433082345
Status : Answered
Chosen Option : 1

Q.4 $40 - [20 - \{14 - (16 - 6 \times 4 - 2)\}]$ का मान ज्ञात कीजिए।

- Ans
- 1. 40
 - 2. 38
 - 3. 44
 - 4. 42

Question ID : 26433079765
Status : Answered
Chosen Option : 3

Q.5 एक क्रिकेट क्लब में औसत उपस्थिति पिछले वर्ष की 5640 से गिरकर इस वर्ष 3820 हो गई। पिछले वर्ष की तुलना में इस वर्ष कितने प्रतिशत कमी हुई?

- Ans
- 1. 28.82 प्रतिशत
 - 2. 18.20 प्रतिशत
 - 3. 24.48 प्रतिशत
 - 4. 32.26 प्रतिशत

Question ID : 264330116792
Status : Answered
Chosen Option : 4

Q.6 किसी संख्या में 30% की वृद्धि करके पुनः 30% की वृद्धि की जाती है। मूल संख्या की पुनर्प्राप्ति के लिए बड़ी हुई संख्या को कितना प्रतिशत कम किया जाना चाहिए?

- Ans
- 1. 42.80%
 - 2. 38.28%
 - 3. 48.20%
 - 4. 40.82%

Question ID : 26433072999
Status : Answered
Chosen Option : 4

Q.7 14 cm त्रिज्या वाले एक गोले का वक्र पृष्ठीय क्षेत्रफल ज्ञात कीजिए।
 $\pi = \frac{22}{7}$ का प्रयोग करें

- Ans
- 1. 2,464 cm²
 - 2. 2,454 cm²
 - 3. 2,446 cm²
 - 4. 2,428 cm²

Question ID : 26433076054
Status : Answered
Chosen Option : 1

Q.8 यदि x, y के अनुक्रमानुपाती है और y = 8 होने पर x = 10 है, तो y = 36 होने पर x का मान क्या है?

- Ans
- 1. 45
 - 2. 48
 - 3. 40
 - 4. 42

Question ID : 26433075555
Status : Answered
Chosen Option : 1

Q.9 एक बस, बाइक से 20% तेज चल सकती है। दोनों एक ही स्थान से, एक ही समय पर चलना शुरू करती हैं और एक ही समय पर 60 km दूर एक ही गंतव्य पर पहुंचती हैं। हालांकि रास्ते में बस 10 मिनट के लिए स्टेशनों पर रुकती है। बाइक की चाल क्या होगी?

- Ans
- 1. 60 km/h
 - 2. 70 km/h
 - 3. 65 km/h
 - 4. 55 km/h

Question ID : 26433075197
Status : Answered
Chosen Option : 1

Q.10 10 व्यक्तियों में से, 9 व्यक्तियों ने अपने नाश्ते पर प्रत्येक ₹15 खर्च किए। दसवें व्यक्ति ने सभी लोगों के औसत व्यय से ₹9 अधिक खर्च किए। उन सभी द्वारा खर्च की गई कुल राशि ज्ञात कीजिए।

- Ans
- 1. ₹135
 - 2. ₹144
 - 3. ₹10
 - 4. ₹160

Question ID : 26433076370
Status : Answered
Chosen Option : 2

Q.11 एक कंपनी ऋण पर 10% वार्षिक की दर से चक्रवृद्धि ब्याज लेती है। कंपनी द्वारा 2 वर्ष की अवधि के लिए ₹2,20,000 की राशि दी जाती है। कंपनी ने प्रत्येक वर्ष के बजाय प्रत्येक छमाही में ब्याज को चक्रवृद्धि किया। यदि कंपनी ब्याज को वार्षिक रूप से चक्रवृद्धि करती, तो उधारकर्ता द्वारा कितना पैसा बचा लिया जाता (एक दशमलव स्थान तक पूर्णांकित)?

- Ans
- 1. ₹1,312.20
 - 2. ₹1,211.40
 - 3. ₹1,412.20
 - 4. ₹1,111.40

Question ID : 26433085461
Status : Not Attempted and Marked For Review
Chosen Option : --

Q.12 एक द्रव का भार उसके आयतन के अनुक्रमानुपाती है। एक द्रव, जिसका भार 12 kg है, उसका आयतन 3 लीटर है। 4 लीटर आयतन वाले द्रव का भार क्या होगा?

- Ans
- 1. 12 kg
 - 2. 16 kg
 - 3. 14 kg
 - 4. 8 kg

Question ID : 26433075194
Status : Answered
Chosen Option : 2

Q.13 एक पुस्तक 20 प्रतिशत की छूट के साथ 300 रुपए में सूचीबद्ध है। विक्रय मूल्य को 216 रुपए पर लाने के लिए कितनी अतिरिक्त छूट दी जानी चाहिए?

- Ans
- 1. 16 प्रतिशत
 - 2. 9 प्रतिशत
 - 3. 10 प्रतिशत
 - 4. 20 प्रतिशत

Question ID : 264330116757
Status : Answered
Chosen Option : 4

Q.14 यदि किसी घन के सबसे लंबे विकर्ण का माप $\sqrt{432}$ cm है, तो इसका आयतन ज्ञात कीजिये।

- Ans
- 1. $1,728\text{cm}^3$
 - 2. $1,928\text{cm}^3$
 - 3. $1,825\text{cm}^3$
 - 4. $1,625\text{cm}^3$

Question ID : 26433074474
Status : Answered
Chosen Option : 1

Q.15 140 m और 160 m लंबी दो ट्रेनें समानांतर लाइनों पर एक 40 km/h की चाल से और दूसरी 50 km/h की चाल से एक-दूसरे की ओर दौड़ रही हैं। जिस क्षण वे दोनों ट्रेनें आपस में मिलेंगी, उसके बाद कितने समय में वे एक-दूसरे को पार कर लेंगी?

- Ans
- 1. 13 sec
 - 2. 10 sec
 - 3. 12 sec
 - 4. 15 sec

Question ID : 26433076201
Status : Answered
Chosen Option : 3

Q.16 A एक कार्य को 20 दिनों में कर सकता है और B उसी कार्य को 24 दिनों में कर सकता है। यदि दोनों एक साथ कार्य करते हैं तो उन्हें कार्य पूरा करने में कितने दिन लगेंगे?

- Ans
- 1. $10\frac{10}{11}$
 - 2. $10\frac{11}{10}$
 - 3. $10\frac{10}{8}$
 - 4. $8\frac{10}{11}$

Question ID : 26433076204
Status : Answered
Chosen Option : 1

Q.17 एक दुकानदार 55 टॉफियां बेचकर 11 टॉफियों का लाभ अर्जित करता है। अर्जित लाभ का प्रतिशत ज्ञात कीजिए।

- Ans
- 1. 11%
 - 2. 25%
 - 3. 15%
 - 4. 20%

Question ID : 26433071310
Status : Answered
Chosen Option : 4

Q.18 अरुण ने संचित से Rs.1,12,500 में एक लैपटॉप खरीदा। संचित ने लैपटॉप पर 25% का लाभ कमाया। रमन ने 20% के लाभ पर संचित को लैपटॉप बेचा था। रमन ने लैपटॉप कितने में खरीदा था?

- Ans
- 1. Rs.75,000
 - 2. Rs.85,000
 - 3. Rs.80,000
 - 4. Rs.90,000

Question ID : 26433075059
Status : Answered
Chosen Option : 2

Q.19 यदि एक दुकानदार, Rs.80 प्रति kg और Rs.95 प्रति kg की दो प्रकार की दालों को 2 : 3 के अनुपात में मिलाता है, तो मिश्रण का औसत मूल्य क्या होगा?

- Ans
- 1. Rs.91 प्रति kg
 - 2. Rs.87 प्रति kg
 - 3. Rs.90 प्रति kg
 - 4. Rs.89 प्रति kg

Question ID : 26433075642
Status : Answered
Chosen Option : 4

Q.20 2 वर्ष पहले जमा की गई ₹10,500 की राशि पहले वर्ष के दौरान 10% वार्षिक और दूसरे वर्ष के दौरान 12% वार्षिक ब्याज दर पर _____ हो जाएगी (ब्याज वार्षिक रूप से चक्रवृद्धि किया जाता है)।

- Ans
- 1. ₹12,937
 - 2. ₹12,705
 - 3. ₹12,936
 - 4. ₹12,396

Question ID : 26433076197
Status : Answered
Chosen Option : 3

Q.1 Select the most appropriate option to substitute the underlined segment in the given sentence.

Due to increased international travel, the tourism sector has grown to be a global tracker to the global economy.

- Ans
- 1. a worthless trade
 - 2. a major importer
 - 3. a substantial contributor
 - 4. a complementary distributor

Question ID : 26433089830
Status : Not Answered
Chosen Option : --

Q.2 Select the most appropriate synonym of the given word.

Drowsy

- Ans
- 1. Stimulant
 - 2. Restive
 - 3. Active
 - 4. Sleepy

Question ID : 26433088128
Status : Not Answered
Chosen Option : --

Q.3 Select the most appropriate meaning of the given idiom.

In dire straits

- Ans
- 1. Crumble under autocracy
 - 2. Futuristic hope
 - 3. Very bad situation
 - 4. Eliminate doubts and fears

Question ID : 26433073997
Status : Not Answered
Chosen Option : --

Q.4 Select the most appropriate ANTONYM of the given word.

Fatuity

- Ans
- 1. Obey
 - 2. Folly
 - 3. Sapience
 - 4. Disregard

Question ID : 26433072214
Status : Not Answered
Chosen Option : --

Q.5 Select the most appropriate synonym of the given word to fill in the blank in the sentence.

Procure

It is very difficult to _____ food and fuel for daily necessities for people living below poverty line in the world.

- Ans
- 1. guarantee
 - 2. effort
 - 3. console
 - 4. obtain

Question ID : 26433060555
Status : Not Answered
Chosen Option : --

Q.6 Select the most appropriate synonym of the underlined word.

Ultimately it turned out to be a fair decision.

- Ans
- 1. Drowsy
 - 2. Effective
 - 3. Unbiased
 - 4. Hollow

Question ID : 26433088761
Status : Not Answered
Chosen Option : --

Q.7 Select the most appropriate option to fill in the blanks and make the sentence meaningful.

My _____ intention was to have a good time in the excellent _____.

- Ans
- 1. sole; weather
 - 2. sole; whether
 - 3. soul; weather
 - 4. soul; whether

Question ID : 26433092099
Status : Not Answered
Chosen Option : --

Q.8 The following sentence has been split into four segments. Identify the segment that contains a grammatical error.

This day next year / I will having a conference with / the international board / discussing the environment.

- Ans
- 1. I will having a conference with
 - 2. This day next year,
 - 3. discussing the environment
 - 4. the international board

Question ID : 264330100303
Status : Not Answered
Chosen Option : --

Q.9 Select the most appropriate idiom that can substitute the italicised words in the given sentence.

It was a *difficult task* to complete a relay run of 5 km in minutes yet our team managed to do it successfully.

- Ans
- 1. kangaroo court
 - 2. seeing pink elephants
 - 3. a Herculean effort
 - 4. the heels of Achilles

Question ID : 26433071999
Status : Not Answered
Chosen Option : --

Q.10 Select the most appropriate option that can substitute the underlined segment in the given sentence.

In the olden days, when people went on pilgrimages, they created a feeling of belonging towards all, convey a message of brotherhood among all they came across.

- Ans
- 1. conveying
 - 2. has conveyed
 - 3. conveyed
 - 4. have conveyed

Question ID : 26433091870
Status : Not Answered
Chosen Option : --

Q.11 Select the most appropriate ANTONYM of the given word.

Neglect

- Ans
- 1. Remember
 - 2. Overlook
 - 3. Omit
 - 4. Slight

Question ID : 26433090786
Status : Not Answered
Chosen Option : --

Q.12 Select the INCORRECTLY spelt word.

- Ans
- 1. Loneliness
 - 2. Compassion
 - 3. Efficient
 - 4. Mortality

Question ID : 26433073736
Status : Not Answered
Chosen Option : --

Q.13 Select the most appropriate option that can substitute the underlined segment in the given sentence. If there is no need to substitute it, select 'No substitution'.
Rapid deforestation may put the lives of many indigenous communities in a danger.

- Ans
- 1. in some danger
 - 2. in the danger
 - 3. in danger
 - 4. No substitution

Question ID : **26433093075**
Status : **Not Answered**
Chosen Option : --

Q.14 Select the most appropriate option to fill in the blanks in the given sentence.

The minister was supposed to _____ the gathering located at the _____ of Hotel Mao Inn.

- Ans
- 1. speech
 - 2. treat
 - 3. address
 - 4. deliver

Question ID : **26433084771**
Status : **Not Answered**
Chosen Option : --

Q.15 The sentence given below has one misspelt word. Spot the INCORRECTLY spelt word and select its correct spelling.

The play depicts a futuristec society.

- Ans
- 1. Fuetristic
 - 2. Fewchuristic
 - 3. Faturistic
 - 4. Futuristic

Question ID : **26433073547**
Status : **Not Answered**
Chosen Option : --

Comprehension:

In the following passage, some words have been deleted. Read the passage carefully and select the most appropriate option to fill in each blank.

The beach is often (1) _____ to as nature's most (2) _____ tourist spot. Going to the beach allows you to take in all of nature's splendour, which includes a (3) _____ of (4) _____ sights. The beach is the perfect place where I can sit, relax and enjoy the (5) _____ and beautiful natural surroundings.

SubQuestion No : 16

Q.16 Select the most appropriate option to fill in blank number 1.

Ans 1. referred

2. associated

3. named

4. called

Question ID : 26433091727

Status : Not Answered

Chosen Option : --

Comprehension:

In the following passage, some words have been deleted. Read the passage carefully and select the most appropriate option to fill in each blank.

The beach is often (1) _____ to as nature's most (2) _____ tourist spot. Going to the beach allows you to take in all of nature's splendour, which includes a (3) _____ of (4) _____ sights. The beach is the perfect place where I can sit, relax and enjoy the (5) _____ and beautiful natural surroundings.

SubQuestion No : 17

Q.17 Select the most appropriate option to fill in blank number 2.

Ans 1. recognised

2. organised

3. crowded

4. natural

Question ID : 26433091728

Status : Not Answered

Chosen Option : --

Comprehension:

In the following passage, some words have been deleted. Read the passage carefully and select the most appropriate option to fill in each blank.

The beach is often (1) _____ to as nature's most (2) _____ tourist spot. Going to the beach allows you to take in all of nature's splendour, which includes a (3) _____ of (4) _____ sights. The beach is the perfect place where I can sit, relax and enjoy the (5) _____ and beautiful natural surroundings.

SubQuestion No : 18

Q.18 Select the most appropriate option to fill in blank number 3.

Ans 1. view

2. plethora

3. means

4. kind

Question ID : 26433091729

Status : Not Answered

Chosen Option : --

Comprehension:

In the following passage, some words have been deleted. Read the passage carefully and select the most appropriate option to fill in each blank.

The beach is often (1) _____ to as nature's most (2) _____ tourist spot. Going to the beach allows you to take in all of nature's splendour, which includes a (3) _____ of (4) _____ sights. The beach is the perfect place where I can sit, relax and enjoy the (5) _____ and beautiful natural surroundings.

SubQuestion No : 19

Q.19 Select the most appropriate option to fill in blank number 4.

- Ans** ✓ 1. captivating
✗ 2. sorrowful
✗ 3. rare
✗ 4. costly

Question ID : 26433091730
Status : Not Answered
Chosen Option : --

Comprehension:

In the following passage, some words have been deleted. Read the passage carefully and select the most appropriate option to fill in each blank.

The beach is often (1) _____ to as nature's most (2) _____ tourist spot. Going to the beach allows you to take in all of nature's splendour, which includes a (3) _____ of (4) _____ sights. The beach is the perfect place where I can sit, relax and enjoy the (5) _____ and beautiful natural surroundings.

SubQuestion No : 20

Q.20 Select the most appropriate option to fill in blank number 5.

- Ans** ✗ 1. costliest
✗ 2. cognizant
✓ 3. peaceful
✗ 4. polluted

Question ID : 26433091731
Status : Not Answered
Chosen Option : --

Section : Part-D-Hindi

Q.1 रिक्त स्थान की पूर्ति उचित संज्ञा शब्द से करें।
_____ तरल अवस्था में होता है।

- Ans** ✗ 1. सुन्दरी
✗ 2. वह
✗ 3. कुछ
✓ 4. पारा

Question ID : 26433085022
Status : Answered
Chosen Option : 4

Q.2 'स्वर्ग' का पर्यायवाची शब्द इनमें से क्या होगा?

- Ans 1. देवलोक
 2. क्षितिज
 3. ब्रह्मांड
 4. द्यौ

Question ID : 26433066905
Status : Answered
Chosen Option : 1

Q.3 निम्न में से किस वाक्य में 'गंगा' के सही पर्यायवाची शब्द का प्रयोग हुआ है?

- Ans 1. कालिंदी में स्नान करना फलदायक है।
 2. कालगंगा का जल बहुत पवित्र होता है।
 3. वेदवती का जल अत्यन्त पवित्र होता है।
 4. देवनादी का जल पवित्र होता है।

Question ID : 26433066933
Status : Answered
Chosen Option : 4

Q.4 'भारत देश के रहने वाले बहुत सारे लोग गौतम बुद्ध के अनुयायी थे।' वाक्य में प्रयुक्त 'अनुयायी' का विलोम शब्द है।

- Ans 1. विरोधी
 2. पुजारी
 3. अनुगामी
 4. प्रशंसक

Question ID : 26433069743
Status : Answered
Chosen Option : 4

Q.5 वीर और साहसी पुरुष साधारण नहीं होते, अपितु _____ प्रतिभा से युक्त होते हैं।

साधारण के विलोम शब्द से वाक्य पूर्ण करें।

- Ans 1. सामान्य
 2. कठोर
 3. विलक्षण
 4. बड़ी

Question ID : 26433080879
Status : Marked For Review
Chosen Option : 3

Q.6 'दादा-दादी का सबके जीवन में पूजनीय स्थान होता है।' उपरोक्त वाक्य के किस भाग में अशुद्ध वर्तनी वाला शब्द है?

- Ans
- 1. दादा-दादी का
 - 2. पूजनीय स्थान
 - 3. सबके जीवन में
 - 4. होता है।

Question ID : 26433069696
Status : Answered
Chosen Option : 2

Q.7 निम्नलिखित वाक्यांश के लिए उपयुक्त शब्द का चयन विकल्पों में से कीजिए। जो प्रमाण द्वारा सिद्ध न हो सके

- Ans
- 1. अचिंत्य
 - 2. अद्वितीय
 - 3. अनिर्वचनीय
 - 4. अप्रमेय

Question ID : 26433069995
Status : Answered
Chosen Option : 4

Q.8 'जो अपनी जगह से न डिगे' वाक्यांश के लिए उचित शब्द बताइए -

- Ans
- 1. असीमित
 - 2. आधार
 - 3. अडिग
 - 4. अखंड

Question ID : 26433065904
Status : Answered
Chosen Option : 3

Q.9 निम्नलिखित वाक्यांश के लिए एक सार्थक शब्द चुनिए। जिसे पार करना कठिन हो

- Ans
- 1. पारंगत
 - 2. दूरदर्शी
 - 3. दुस्तर
 - 4. दत्तक

Question ID : 26433062734
Status : Answered
Chosen Option : 1

Q.10 निम्नलिखित मुहावरे के लिय उपयुक्त सार्थक शब्द है-
बहती गंगा में हाथ धोना

- Ans 1. अवसर का फायदा उठाना
 2. अपमान सहन कर लेना
 3. सम्मान देना
 4. बहुत अधिक परिश्रम करना

Question ID : 26433065774
Status : Answered
Chosen Option : 1

Q.11 रेखांकित शब्द के स्थान पर सर्वोचित विकल्प चुनिए।
आवश्यक काम में रूत रहने के कारण मुझे अवकाश नहीं मिला।

- Ans 1. व्यस्त
 2. विरक्त
 3. विलीन
 4. आसक्त

Question ID : 26433084957
Status : Answered
Chosen Option : 1

Q.12 'लालकिला भारत की _____ इमारत है।' वाक्य में रिक्त स्थान की पूर्ति शुद्ध शब्द द्वारा कीजिए।

- Ans 1. ऐतिहासिक
 2. इतिहासिक
 3. एतिहासिक
 4. इतिहाषिक

Question ID : 26433069702
Status : Answered
Chosen Option : 1

Q.13 वाक्य में रेखांकित शब्द के स्थान पर सर्वोचित शब्द का चयन कीजिए।

प्रत्येक भारतवासी को हिंदी का सामान्य ज्ञान होना चाहिए।

- Ans 1. साहित्यिक
 2. सामाजिक
 3. व्यावहारिक
 4. लौकिक

Question ID : 26433065700
Status : Answered
Chosen Option : 4

Q.14 निम्नलिखित में से कौन-सा वाक्य संज्ञा के प्रयोग की दृष्टि से शुद्ध है?

- Ans
- 1. रघुवीर मेरा अग्रज भाई है।
 - 2. रघुवीर मेरा अग्रज बड़ा भाई है।
 - 3. रघुवीर मेरा अग्रज छोटा भाई है।
 - 4. रघुवीर मेरा अग्रज है।

Question ID : 26433066960
Status : Answered
Chosen Option : 4

Q.15 'ऊंट के मुंह में पान भरना।' रेखांकित वाक्यांश के स्थान पर शुद्ध वाक्यांश होगा-

- Ans
- 1. नमक देना
 - 2. धनिया देना
 - 3. पानी भरना
 - 4. जीरा देना

Question ID : 26433062813
Status : Answered
Chosen Option : 4

Comprehension:

निम्नलिखित गद्यांश में से कुछ शब्द हटा दिए गए हैं। दिए गए विकल्पों की सहायता से रिक्त स्थानों की पूर्ति कीजिए। प्रत्येक संख्या के लिए उपयुक्त विकल्प का चयन कीजिए-

बाबाजी भी मनुष्य ही थे। अपनी वस्तु की 1. _____ दूसरे के मुख से सुनने के लिए उनका हृदय अधीर हो गया। घोड़े को खोलकर बाहर गए। 2. _____ वायुवेग से उड़ने लगा। 3. _____ चाल देखकर खड्ग सिंह के हृदय पर साँप 4. _____ गया। वह डाकू था और जो वस्तु उसे पसंद आ जाए उस पर 5. _____ अपना अधिकार समझता था।

SubQuestion No : 16

Q.16 रिक्त स्थान 1 की पूर्ति के लिए सर्वाधिक उपयुक्त विकल्प का चयन कीजिए।

- Ans
- 1. नाम
 - 2. प्रशंसा
 - 3. बुराई
 - 4. निंदा

Question ID : 26433079692
Status : Answered
Chosen Option : 2

Comprehension:

निम्नलिखित गद्यांश में से कुछ शब्द हटा दिए गए हैं। दिए गए विकल्पों की सहायता से रिक्त स्थानों की पूर्ति कीजिए। प्रत्येक संख्या के लिए उपयुक्त विकल्प का चयन कीजिए-

बाबाजी भी मनुष्य ही थे। अपनी वस्तु की 1. _____ दूसरे के मुख से सुनने के लिए उनका हृदय अधीर हो गया। घोड़े को खोलकर बाहर गए। 2. _____ वायुवेग से उड़ने लगा। 3. _____ चाल देखकर खड्ग सिंह के हृदय पर साँप 4. _____ गया। वह डाकू था और जो वस्तु उसे पसंद आ जाए उस पर 5. _____ अपना अधिकार समझता था।

SubQuestion No : 17

Q.17 रिक्त स्थान 2 की पूर्ति के लिए सर्वाधिक उपयुक्त विकल्प का चयन कीजिए।

- Ans
- 1. मनुष्य
 - 2. घोड़ा
 - 3. बैल
 - 4. बाबा

Question ID : 26433079693

Status : Answered

Chosen Option : 2

Comprehension:

निम्नलिखित गद्यांश में से कुछ शब्द हटा दिए गए हैं। दिए गए विकल्पों की सहायता से रिक्त स्थानों की पूर्ति कीजिए। प्रत्येक संख्या के लिए उपयुक्त विकल्प का चयन कीजिए-

बाबाजी भी मनुष्य ही थे। अपनी वस्तु की 1. _____ दूसरे के मुख से सुनने के लिए उनका हृदय अधीर हो गया। घोड़े को खोलकर बाहर गए। 2. _____ वायुवेग से उड़ने लगा। 3. _____ चाल देखकर खड्ग सिंह के हृदय पर साँप 4. _____ गया। वह डाकू था और जो वस्तु उसे पसंद आ जाए उस पर 5. _____ अपना अधिकार समझता था।

SubQuestion No : 18

Q.18 रिक्त स्थान 3 की पूर्ति के लिए सर्वाधिक उपयुक्त विकल्प का चयन कीजिए।

- Ans
- 1. उसकी
 - 2. किसकी
 - 3. मेरी
 - 4. सबकी

Question ID : 26433079694

Status : Answered

Chosen Option : 1

Comprehension:

निम्नलिखित गद्यांश में से कुछ शब्द हटा दिए गए हैं। दिए गए विकल्पों की सहायता से रिक्त स्थानों की पूर्ति कीजिए। प्रत्येक संख्या के लिए उपयुक्त विकल्प का चयन कीजिए-

बाबाजी भी मनुष्य ही थे। अपनी वस्तु की 1. _____ दूसरे के मुख से सुनने के लिए उनका हृदय अधीर हो गया। घोड़े को खोलकर बाहर गए। 2. _____ वायुवेग से उड़ने लगा। 3. _____ चाल देखकर खड्ग सिंह के हृदय पर साँप 4. _____ गया। वह डाकू था और जो वस्तु उसे पसंद आ जाए उस पर 5. _____ अपना अधिकार समझता था।

SubQuestion No : 19

Q.19 रिक्त स्थान 4 की पूर्ति के लिए सर्वाधिक उपयुक्त विकल्प का चयन कीजिए।

- Ans
- 1. छिप
 - 2. भाग
 - 3. रुक
 - 4. लोट

Question ID : 26433079695

Status : Answered

Chosen Option : 4

Comprehension:

निम्नलिखित गद्यांश में से कुछ शब्द हटा दिए गए हैं। दिए गए विकल्पों की सहायता से रिक्त स्थानों की पूर्ति कीजिए। प्रत्येक संख्या के लिए उपयुक्त विकल्प का चयन कीजिए-

बाबाजी भी मनुष्य ही थे। अपनी वस्तु की 1. _____ दूसरे के मुख से सुनने के लिए उनका हृदय अधीर हो गया। घोड़े को खोलकर बाहर गए। 2. _____ वायुवेग से उड़ने लगा। 3. _____ चाल देखकर खड्ग सिंह के हृदय पर साँप 4. _____ गया। वह डाकू था और जो वस्तु उसे पसंद आ जाए उस पर 5. _____ अपना अधिकार समझता था।

SubQuestion No : 20

Q.20 रिक्त स्थान 5 की पूर्ति के लिए सर्वाधिक उपयुक्त विकल्प का चयन कीजिए।

- Ans
- 1. वह
 - 2. हम
 - 3. मुझे
 - 4. मैं

Question ID : 26433079696

Status : Answered

Chosen Option : 1

Constable GD in CAPFs SSF Rifleman GD in Assam Rifles and Sepoy in NCB Examination 2022

Roll Number	KD Job Updates
Candidate Name	KD Job Updates
Venue Name	Aurobindo International School Jaipur
Exam Date	11/01/2023
Exam Time	2:30 PM - 3:30 PM
Subject	Constable GD Examination 2022

Section : Part-A-General Intelligence and Reasoning

Q.1 उस विकल्प का चयन कीजिए जो तीसरे शब्द से उसी प्रकार संबंधित है जिस प्रकार दूसरा शब्द पहले शब्द से संबंधित है। (शब्दों को अर्थपूर्ण शब्दों के रूप में मानना है और उन्हें शब्द में अक्षरों/व्यंजनों/स्वरों की संख्या के आधार पर एक-दूसरे से संबंधित नहीं करना है।)
ढोल : तालवाद्य :: गिटार : _____

- Ans
- 1. बांसुरी
 - 2. सुषिर वाद्य
 - 3. तंत वाद्य
 - 4. सितार

Question ID : 26433079403

Status : Answered

Chosen Option : 3

Q.2 'A @ B' का अर्थ है कि 'A , B का पुत्र है'
'A & B' का अर्थ है कि 'A , B की माता है'
'A # B' का अर्थ है कि 'A , B की पुत्री है'
दिए गए विकल्पों में से किसका अर्थ है कि 'Q , S की पत्नी है'?

- Ans
- 1. P @ Q & R # S
 - 2. P # Q @ R # S
 - 3. R @ S & Q # P
 - 4. R @ S @ Q # P

Question ID : 26433069659

Status : Marked For Review

Chosen Option : 1

Q.3 कौन-सा अक्षर-समूह दी गई श्रृंखला में प्रश्नचिह्न (?) के स्थान पर आकर श्रृंखला को पूर्ण करेगा?
ZTQM, YSPL, ?, WQNJ, VPMI

- Ans
- 1. XROK
 - 2. XRPK
 - 3. XSOK
 - 4. XSPK

Question ID : 26433067945

Status : Answered

Chosen Option : 1

Q.4 एक निश्चित कूट भाषा में, 'RESPECT' को 'EECPRTS' के रूप में लिखा जाता है, 'HONOUR' को 'OOUHNOR' के रूप में लिखा जाता है, उसी भाषा में 'COURAGE' को कैसे लिखा जाएगा?


- Ans
- ✓ 1. AEOUCGR
 - ✗ 2. AEOUCRG
 - ✗ 3. CRGAEOU
 - ✗ 4. CGRAEOU

Question ID : 26433069651

Status : Not Answered

Chosen Option : --

Q.5 उस आकृति का चयन कीजिए, जो नीचे दी गई शृंखला में आगे आएगी।



Ans

- ✓ 1.
- ✗ 2.
- ✗ 3.
- ✗ 4.

Question ID : 26433078973

Status : Answered

Chosen Option : 1

Q.6 छः विद्यार्थी एक वृत्ताकार मेज के परितः मेज के केंद्र की ओर मुख करके बैठे हैं। वेंडिल, लिण्डर के दाईं ओर चौथे स्थान पर बैठा है। माइकल, वेंडिल के दाईं ओर तीसरे स्थान पर बैठा है। गांधार, माइकल के बाईं ओर दूसरे स्थान पर बैठा है। योगिता, गांधार के दाईं ओर तीसरे स्थान पर बैठी है। रॉकी, वेंडिल और योगिता के ठीक बगल में है। लिण्डर और वेंडिल के बीच में कौन बैठा है?

- Ans
- 1. गांधार
 - 2. योगिता
 - 3. रॉकी
 - 4. माइकल

Question ID : 26433081775

Status : Answered

Chosen Option : 1

Q.7 उस विकल्प का चयन करें, जो चौथे पद से उसी प्रकार संबंधित है, जिस प्रकार पहला पद दूसरे पद से संबंधित है और पाँचवाँ पद छठे पद से संबंधित है।
8 : 6 :: ? : 12 :: 343 : 21

- Ans
- 1. 27
 - 2. 84
 - 3. 72
 - 4. 64

Question ID : 26433074545

Status : Answered

Chosen Option : 4

Q.8 दिए गए विकल्पों में से उस अक्षर-समूह का चयन कीजिए जो निम्न श्रृंखला में प्रश्न-चिह्न (?) के स्थान पर आ सकता है।
BQZJ, ELCM, HGFP, ? , NWLV

- Ans
- 1. KBIS
 - 2. EDGA
 - 3. KCUD
 - 4. EBSI

Question ID : 26433074744

Status : Answered

Chosen Option : 1

Q.9 निम्नलिखित में से कौन-सी संख्या दी गई श्रृंखला में प्रश्न-चिह्न (?) को प्रतिस्थापित करेगी?
19, 21, 25, 33, ?, 81, 145

- Ans
- 1. 47
 - 2. 48
 - 3. 49
 - 4. 50

Question ID : 26433069388

Status : Answered

Chosen Option : 3

Q.10 किस विकल्प में निम्नलिखित शब्दों का वह क्रम दिया गया है, जिस क्रम में वे अंग्रेजी शब्दकोश में आते हैं?
1 chair
2 chain
3 charm
4 charge
5 charcoal

Ans ✓ 1. 2,1,5,4,3

✗ 2. 1,2,3,4,5

✗ 3. 2,3,1,4,5

✗ 4. 2,4,1,3,5

Question ID : 26433069304

Status : Answered

Chosen Option : 1

Q.11 दिए गए समीकरण को संतुलित करने के लिए गणितीय चिह्नों का निम्न में से कौन सा संयोजन इसमें क्रमिक रूप से * चिह्नों के स्थान पर आएगा?
 $30 * 95 * 5 * 32 * 4 * 497$

Ans ✓ 1. +, x, -, ÷, =

✗ 2. x, +, -, ÷, =

✗ 3. +, x, ÷, -, =

✗ 4. +, x, -, =, +

Question ID : 26433083127

Status : Answered

Chosen Option : 1

Q.12 एक निश्चित कूट भाषा में 'COVER' को '18522153' लिखा जाता है और 'STINK' को '111492019' लिखा जाता है। उसी भाषा में 'PLATE' किस प्रकार लिखा जाएगा?

Ans ✗ 1. 56841525

✓ 2. 52011216

✗ 3. 16121195

✗ 4. 68541264

Question ID : 26433081765

Status : Answered

Chosen Option : 2

Q.13 दी गई आकृति के सही दर्पण प्रतिबिंब का चयन करें जब दर्पण नीचे दर्शाए गए अनुसार MN पर रखा जाता है।



- Ans
- ✓ 1. wETB7i3rK
 - ✗ 2. wETB7i3rK
 - ✗ 3. wETB7i3rK
 - ✗ 4. wETB7i3rK

Question ID : 26433089457
Status : Answered
Chosen Option : 1

Q.14 छः व्यक्ति - हेमा, रेखा, जया, सुषमा, निम्मी और बरखा एक पंक्ति में उत्तर की ओर मुख करके बैठे हैं। बरखा, जया के बगल में नहीं बैठी है और जया एकदम दाएं सिरे पर बैठी है। निम्मी और बरखा के बीच में केवल हेमा बैठी है। निम्मी, सुषमा और जया के बगल में नहीं बैठी है। सुषमा और जया के बीच में केवल रेखा बैठी है। बरखा के दाईं ओर ठीक बगल में कौन बैठा/बैठी है?

- Ans
- ✗ 1. जया
 - ✗ 2. निम्मी
 - ✗ 3. हेमा
 - ✓ 4. सुषमा

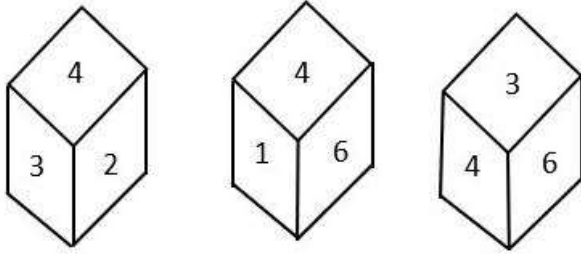
Question ID : 26433079059
Status : Answered
Chosen Option : 4

Q.15 दिए गए विकल्पों में से वह संख्या चुनिए, जो निम्नलिखित श्रृंखला में प्रश्न-चिह्न (?) को प्रतिस्थापित कर सके।
7, 13, 28, 55, 112, ?

- Ans
- ✗ 1. 322
 - ✓ 2. 223
 - ✗ 3. 232
 - ✗ 4. 222

Question ID : 26433078919
Status : Answered
Chosen Option : 2

Q.16 एक ही पासे की तीन अलग-अलग स्थितियों को दर्शाया गया है। '4' दर्शाने वाले फलक के विपरीत फलक की संख्या ज्ञात कीजिए।



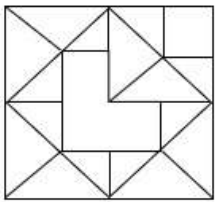
- Ans
- 1. 3
 - 2. 1
 - 3. 2
 - 4. 5

Question ID : 26433090074

Status : Answered

Chosen Option : 4

Q.17 उस विकल्प आकृति का चयन करें जो दी गई आकृति में अंतर्निहित है (घुमाने की अनुमति नहीं है)।



Ans

- 1.
- 2.
- 3.
- 4.

Question ID : 26433069481

Status : Answered

Chosen Option : 4

Q.18 तीन कथन दिए गए हैं, जिनके बाद तीन निष्कर्ष I, II और III दिए गए हैं। कथनों को सत्य मानते हुए, भले ही वे सामान्य रूप से ज्ञात तथ्यों से भिन्न प्रतीत होते हों, निर्धारित करें कि कौन-सा/से निष्कर्ष कथनों का तार्किक रूप से अनुसरण करता है/करते हैं।

कथन:

कोई कोट पैट नहीं है।

सभी पैट शर्ट हैं।

कुछ शर्ट कोट हैं।

निष्कर्ष:

I. कोई कोट शर्ट नहीं है।

II. कुछ शर्ट पैट हैं।

III. कुछ पैट कोट हैं।

- Ans
- 1. केवल निष्कर्ष I और III अनुसरण करते हैं
 - 2. केवल निष्कर्ष II और III अनुसरण करते हैं
 - 3. सभी निष्कर्ष अनुसरण करते हैं
 - 4. केवल निष्कर्ष II अनुसरण करता है

Question ID : 26433090993

Status : Answered

Chosen Option : 4

Q.19 नीचे दिए गए समीकरण को गणितीय रूप से सही बनाने के लिए किन दो चिन्हों को परस्पर बदलना चाहिए?

$$24 + 120 \div 8 \times 16 - 48 = 36$$

- Ans
- 1. \times और $-$
 - 2. $-$ और $+$
 - 3. \div और $-$
 - 4. \div और \times

Question ID : 264330117516

Status : Answered

Chosen Option : 4

Q.20 उस विकल्प का चयन कीजिए जो तीसरे शब्द से उसी प्रकार संबंधित है जिस प्रकार दूसरा शब्द पहले शब्द से संबंधित है। (शब्दों को अर्थपूर्ण शब्दों के रूप में मानना है और उन्हें शब्द में अक्षरों/व्यंजनों/स्वरों की संख्या के आधार पर एक-दूसरे से संबंधित नहीं करना है।)

पैना : भोथरा :: धुंधला : ?

- Ans
- 1. दृश्य
 - 2. गहरा
 - 3. स्पष्ट
 - 4. हल्का

Question ID : 26433067973

Status : Answered

Chosen Option : 3

Q.1 त्रिशूर पूरम उत्सव निम्नलिखित में से किस राज्य में मनाया जाता है?

- Ans
- 1. आंध्र प्रदेश
 - 2. केरल
 - 3. कर्नाटक
 - 4. तमिल नाडु

Question ID : 264330115111
Status : Answered
Chosen Option : 2

Q.2 विटामिन C एक _____ है।

- Ans
- 1. एंटीवायरस
 - 2. एंटीऑक्सिडेंट
 - 3. एंटीजन
 - 4. एंटीबायोटिक

Question ID : 264330115202
Status : Answered
Chosen Option : 2

Q.3 दक्षिण एशियाई खेलों का आयोजन सर्वप्रथम किस वर्ष में हुआ था?

- Ans
- 1. 1984
 - 2. 1988
 - 3. 1985
 - 4. 1990

Question ID : 264330115939
Status : Answered
Chosen Option : 3

Q.4 अगस्त 2022 में की गई घोषणा के अनुसार, अंतर्राष्ट्रीय मुद्रा कोष (IMF) में भारत के लिए कार्यकारी निदेशक के पद पर किसे नियुक्त किया गया है?

- Ans
- 1. कृष्णमूर्ति सुब्रमण्यम
 - 2. रमेश चंद
 - 3. गीता गोपीनाथ
 - 4. राजेश शर्मा

Question ID : 264330115006
Status : Answered
Chosen Option : 1

Q.5 ग्रीष्म ऋतु स्थानीय तूफानों का मौसम होता है, जिनमें तीव्र हवाओं के साथ गरज वाली मूसलाधार वर्षा भी होती है, इसके साथ प्रायः हिम वृष्टि भी होती है। पश्चिम बंगाल में, इन तूफानों को _____ के रूप में जाना जाता है।

- Ans
- 1. काल वैशाखी
 - 2. ताहिती
 - 3. लू
 - 4. महावत

Question ID : 26433091487
Status : Marked For Review
Chosen Option : 4

Q.6 शतरंज के वर्गाकार खानों की क्षैतिज पंक्तियों को क्या कहा जाता है?

- Ans
- 1. पॉन
 - 2. फाइल
 - 3. बिशप
 - 4. रैंक

Question ID : 26433071571
Status : Marked For Review
Chosen Option : 3

Q.7 राशेश्वर सैकिया बारबयान _____ नृत्य से संबंधित हैं।

- Ans
- 1. सत्रीया
 - 2. कुचिपुड़ी
 - 3. ओडिसी
 - 4. भरतनाट्यम

Question ID : 264330115890
Status : Marked For Review
Chosen Option : 1

Q.8 भारत में कौन-सा गैर-पारंपरिक ऊर्जा स्रोत उपलब्ध है/हैं?

- Ans
- 1. ज्वारीय, पवन और सौर ऊर्जा
 - 2. केवल ज्वारीय ऊर्जा
 - 3. केवल सौर ऊर्जा
 - 4. केवल सौर और पवन ऊर्जा

Question ID : 264330115550
Status : Answered
Chosen Option : 4

Q.9 भारत में सूचना प्रौद्योगिकी उद्योग का प्रमुख केंद्र निम्न में से किसे माना जाता है?

- Ans
- 1. कश्मीर
 - 2. भोपाल
 - 3. सूरत
 - 4. बेंगलुरु

Question ID : 264330115399

Status : Answered

Chosen Option : 4

Q.10 राज्यों की परिषद को _____ के रूप में भी जाना जाता है।

- Ans
- 1. उच्चतम न्यायालय
 - 2. लोकसभा
 - 3. राज्यसभा
 - 4. उच्च न्यायालय

Question ID : 26433086860

Status : Answered

Chosen Option : 4

Q.11 ग्रीडा (Grida) लोक नृत्य मध्य प्रदेश राज्य में _____ के दौरान किया जाता है, जब रबी की फसल कटाई के लिए तैयार होती है।

- Ans
- 1. सर्दी
 - 2. पतझड़
 - 3. ग्रीष्म
 - 4. वसंत

Question ID : 264330115068

Status : Answered

Chosen Option : 4

Q.12 उपभोक्ता संरक्षण नियम, 2021 के अनुसार, जिला आयोगों के पास उन शिकायतों पर विचार करने का अधिकार होगा जहां प्रतिफल के रूप में भुगतान की गई वस्तुओं या सेवाओं का मूल्य _____ है।

- Ans
- 1. दस लाख रुपए से अधिक नहीं
 - 2. एक लाख रुपए से अधिक नहीं
 - 3. पचास लाख रुपए से अधिक नहीं
 - 4. एक करोड़ रुपए से अधिक

Question ID : 264330116236

Status : Answered

Chosen Option : 3

Q.13 सिरके में उपस्थित अम्ल का रासायनिक नाम _____ है।

- Ans
- 1. मैलोनिक अम्ल
 - 2. एसिटिक अम्ल
 - 3. नाइट्रिक अम्ल
 - 4. फॉर्मिक अम्ल

Question ID : 26433066470
Status : Answered
Chosen Option : 2

Q.14 भारत में, कार्यबल (workforce) आबादी में _____ के लोग शामिल नहीं होते हैं।

- Ans
- 1. 17 वर्ष
 - 2. 20 वर्ष
 - 3. 14 वर्ष
 - 4. 16 वर्ष

Question ID : 264330116088
Status : Answered
Chosen Option : 3

Q.15 _____ ≡ अर्थव्यवस्था की सभी फर्मों के सकल मूल्यवर्धित का कुल योग

- Ans
- 1. जी. एन. पी.
 - 2. एन. एन. पी.
 - 3. जी. डी. पी.
 - 4. एन. आई.

Question ID : 264330115303
Status : Answered
Chosen Option : 3

Q.16 भारतीय संविधान में कितने मौलिक कर्तव्यों का उल्लेख किया गया है? (मई 2022 के अनुसार)

- Ans
- 1. 10
 - 2. 8
 - 3. 11
 - 4. 9

Question ID : 264330115621
Status : Answered
Chosen Option : 1

Q.17 निम्नलिखित में से कौन बांग्लादेश के ग्रामीण बैंक के संस्थापक हैं?

- Ans
- 1. अब्दुस सलाम
 - 2. मुजफ्फर अहमद
 - 3. मुहम्मद यूनुस
 - 4. महबूब उल हक

Question ID : 26433054799

Status : Not Answered

Chosen Option : --

Q.18 1857 में किस विश्वविद्यालय की स्थापना हुई थी?

- Ans
- 1. इलाहाबाद विश्वविद्यालय
 - 2. बंबई विश्वविद्यालय
 - 3. बुंदेलखंड विश्वविद्यालय
 - 4. पंजाब विश्वविद्यालय

Question ID : 264330115710

Status : Answered

Chosen Option : 1

Q.19 भारत के जम्मू और कश्मीर के किस राजनीतिक नेता ने नवंबर 2022 में किश्तवाड़-डोडा बेल्ट की 3 दिवसीय यात्रा शुरू की?

- Ans
- 1. फारूक अब्दुल्ला
 - 2. तारिक हमीद करी
 - 3. महबूबा मुफ्ती
 - 4. गुलाम नबी आज़ाद

Question ID : 264330114935

Status : Answered

Chosen Option : 4

Q.20 निम्नलिखित में से शुंग वंश की स्थापना किसने की थी?

- Ans
- 1. पुष्यमित्र
 - 2. अगणिमित्रा
 - 3. वसुमित्र
 - 4. देवभूति

Question ID : 264330106590

Status : Answered

Chosen Option : 1

Q.1 एक साधारण वृद्धि दर के तहत, एक शहर की जनसंख्या (P इकाई) 10 वर्ष में P की 1.5 गुना हो जाती है। उसी वृद्धि दर के तहत कितने वर्ष में शहर की जनसंख्या दोगुनी (P की दो गुना) हो जाएगी?

- Ans
- 1. 17
 - 2. 15
 - 3. 20
 - 4. 12

Question ID : 26433081721

Status : Answered

Chosen Option : 3

Q.2 पीतल से बने एक गोलार्द्ध कटोरे का आंतरिक व्यास 14 cm है। ₹15 प्रति cm^2 की दर से इसे अंदर से रंगने का खर्च ज्ञात कीजिए। ($\pi = \frac{22}{7}$ का प्रयोग करें)

- Ans
- 1. ₹2,670
 - 2. ₹4,620
 - 3. ₹4,120
 - 4. ₹3,170

Question ID : 26433080068

Status : Answered

Chosen Option : 2

Q.3 20% वार्षिक चक्रवृद्धि ब्याज दर पर Rs.12,500 कितने वर्षों में Rs.21,600 हो जाएंगे, जब ब्याज वार्षिक रूप से चक्रवृद्धि होगा?

- Ans
- 1. 2
 - 2. 5
 - 3. 7
 - 4. 3

Question ID : 26433081475

Status : Answered

Chosen Option : 4

Q.4 14 विद्यार्थियों और उनके शिक्षक की औसत आयु 20 वर्ष है। यदि शिक्षक को छोड़ दिया जाए, तो उनकी औसत आयु 1.5 वर्ष कम हो जाती है। शिक्षक की आयु कितनी है?

- Ans
- 1. 39 वर्ष
 - 2. 41 वर्ष
 - 3. 30 वर्ष
 - 4. 59 वर्ष

Question ID : 26433087340

Status : Answered

Chosen Option : 2

Q.5 एक चोर 3:30 p.m. पर एक कार चुराता है, और उसे 80km/h की चाल से चलाता है। यदि चोरी का पता 4:00 p.m. पर चलता है, और मालिक दूसरी कार से 90km/h की चाल से पीछा करता है। वह चोर को कब पकड़ लेगा?

- Ans 1. 8:00 p.m.
 2. 7:00 p.m.
 3. 7:30 p.m.
 4. 8:30 p.m.

Question ID : 26433073039
Status : Answered
Chosen Option : 1

Q.6 1020, 850 और 1156 का महत्तम समापवर्तक (HCF) ज्ञात करें।

- Ans 1. 22
 2. 34
 3. 28
 4. 24

Question ID : 26433076390
Status : Answered
Chosen Option : 2

Q.7 35 और 42 के लघुत्तम समापवर्तक को 32 और 40 के महत्तम समापवर्तक से भाग करें।

- Ans 1. 26.375
 2. 26.000
 3. 26.125
 4. 26.250

Question ID : 264330116652
Status : Answered
Chosen Option : 4

Q.8 एक मेज के क्रय मूल्य का अंकित मूल्य से अनुपात 3:4 है। दुकानदार अंकित मूल्य पर 25% की दो समान क्रमागत छूट देता है और मेज को Rs.2,250 में बेचता है। इस लेनदेन के दौरान होने वाली हानि ज्ञात कीजिए।

- Ans 1. Rs.1,000
 2. Rs.250
 3. Rs.500
 4. Rs.750

Question ID : 26433075973
Status : Answered
Chosen Option : 4

Q.9 यदि रानी 15 km/h की चाल से दौड़ती है, तो वह 200 m की दूरी तय करने में कितना समय लेगी?

- Ans
- 1. 12 sec
 - 2. 36 sec
 - 3. 48 sec
 - 4. 24 sec

Question ID : 26433073034

Status : Answered

Chosen Option : 3

Q.10 अमन 15 km की दूरी 3 घंटे में और 20 km की दूरी 2 घंटे में तय करता है। अमन की औसत चाल क्या है?

- Ans
- 1. 6 km/h
 - 2. 7 km/h
 - 3. 5 km/h
 - 4. 8 km/h

Question ID : 26433075057

Status : Answered

Chosen Option : 2

Q.11 एक पुस्तकालय में गणित की पुस्तकों की संख्या का 25%, भौतिकी की पुस्तकों की संख्या के दो-तिहाई के बराबर है। पुस्तकालय में गणित की पुस्तकों की संख्या और भौतिकी की पुस्तकों की संख्या का अनुपात क्या है?

- Ans
- 1. 4 : 7
 - 2. 7 : 4
 - 3. 8 : 3
 - 4. 3 : 8

Question ID : 26433082368

Status : Answered

Chosen Option : 3

Q.12 एक बल्ला Rs.750 में खरीदा जाता है और 8% की हानि पर बेचा जाता है। इसका विक्रय मूल्य क्या है?

- Ans
- 1. Rs.660
 - 2. Rs.690
 - 3. Rs.680
 - 4. Rs.630

Question ID : 26433075145

Status : Marked For Review

Chosen Option : 2

Q.13 भानु एक काम को 10 दिनों में कर सकता है। रमेश इसे पूरा करने में 12 दिन लेता है। भानु और रमेश द्वारा एक साथ मिलकर काम करने में लिया गया समय रोहित द्वारा लिए गए समय के बराबर है। रमेश और रोहित को एक साथ काम पूरा करने में कितना समय लगेगा?

- Ans
- 1. $3\frac{3}{8}$ दिन
 - 2. $3\frac{3}{7}$ दिन
 - 3. $3\frac{3}{5}$ दिन
 - 4. $3\frac{3}{4}$ दिन

Question ID : 26433075122

Status : Marked For Review

Chosen Option : 4

Q.14 एक लंब वृत्तीय शंकु के आधार की त्रिज्या 7 cm है और इसका वक्र पृष्ठीय क्षेत्रफल 550 cm^2 है। शंकु का आयतन क्या होगा?

$$\left(\pi = \frac{22}{7}\right)$$

- Ans
- 1. 1322 cm^3
 - 2. 1223 cm^3
 - 3. 1232 cm^3
 - 4. 1233 cm^3

Question ID : 26433075211

Status : Answered

Chosen Option : 3

Q.15 S एक कार्य को 50 दिनों में पूरा कर सकता है, T उसे 40 दिनों में पूरा कर सकता है और M उसे 30 दिनों में पूरा कर सकता है। S सप्ताह के सभी दिनों में कार्य कर सकता है; T केवल सोमवार, बुधवार और शुक्रवार को कार्य कर सकता है जबकि M केवल शनिवार और रविवार को कार्य कर सकता है। कार्य सोमवार को आरंभ किया जाता है। यह कितने सप्ताह में पूरा हो जाएगा?

- Ans
- 1. 2 से 3 सप्ताह के बीच
 - 2. ठीक 3 सप्ताह में
 - 3. 4 से 5 सप्ताह के बीच
 - 4. 3 से 4 सप्ताह के बीच

Question ID : 26433085471

Status : Marked For Review

Chosen Option : 4

Q.16 पहले वर्ष के दौरान, एक शहर की जनसंख्या में 5% की वृद्धि हुई और दूसरे वर्ष के दौरान, यह 4% कम हो गई। दूसरे वर्ष के अंत में, इसकी जनसंख्या 30,240 थी। पहले वर्ष के अंत में जनसंख्या कितनी थी?

- Ans
- 1. 31200
 - 2. 30000
 - 3. 31500
 - 4. 30300

Question ID : 26433087347
Status : Answered
Chosen Option : 3

Q.17 9 और 25 के बीच मध्यानुपाती ज्ञात कीजिए।

- Ans
- 1. 17
 - 2. 26
 - 3. 23
 - 4. 15

Question ID : 26433074950
Status : Answered
Chosen Option : 4

Q.18 एक दुकानदार सभी कपड़ों पर 20% की छूट प्रदान करता है और नकद भुगतान करने वाले ग्राहकों को 5% की अतिरिक्त छूट प्रदान करता है। ₹7,200 के अंकित मूल्य वाली जैकेट के लिए ग्राहक को नकद में कितना भुगतान करना होगा?

- Ans
- 1. ₹6,972
 - 2. ₹6,048
 - 3. ₹5,760
 - 4. ₹5,472

Question ID : 26433087366
Status : Answered
Chosen Option : 4

Q.19 13 प्रतिशत और 19 प्रतिशत की क्रमिक छूट किस एकल छूट के बराबर है?

- Ans
- 1. 9.53 प्रतिशत
 - 2. 19.53 प्रतिशत
 - 3. 29.53 प्रतिशत
 - 4. 39.53 प्रतिशत

Question ID : 26433074224
Status : Answered
Chosen Option : 3

Q.20 3 और 27 के बीच मध्यानुपात ज्ञात कीजिए।

Ans 1. 10

2. 9

3. 6

4. 5

Question ID : 26433082100

Status : Answered

Chosen Option : 2

Section : Part-D-English

Q.1 Select the INCORRECTLY spelt word.

Ans 1. Curriculum

2. Height

3. Enthusiastic

4. Explanation

Question ID : 26433073723

Status : Not Answered

Chosen Option : --

Q.2 Select the most appropriate ANTONYM of the given word.

Just

Ans 1. Unfair

2. Gullible

3. Jovial

4. Honest

Question ID : 26433092071

Status : Not Answered

Chosen Option : --

Q.3 Select the most appropriate synonym of the given word.

Conviction

Ans 1. Doubt

2. Suspicion

3. Approach

4. Belief

Question ID : 26433073863

Status : Not Answered

Chosen Option : --

Q.4 Select the most appropriate option that can substitute the underlined segment in the given sentence. If there is no need to substitute it, select 'No substitution'.

They found it difficult to extract relevent information from the officer.

- Ans
- 1. relevint
 - 2. No substitution
 - 3. relevant
 - 4. relivant

Question ID : 26433074004
Status : Not Answered
Chosen Option : --

Q.5 The following sentence has been divided into parts. One of them may contain an error. Select the part that contains the error from the given options. If you don't find any error, mark 'No error' as your answer.

The technician has found it / extremely difficult to fix / the error in the programme.

- Ans
- 1. The technician has found it
 - 2. extremely difficult to fix
 - 3. No error
 - 4. the error in the programme

Question ID : 26433094751
Status : Not Answered
Chosen Option : --

Q.6 Select the most appropriate synonym of the underlined word in the following sentence.

He and his family members live in prosperity.

- Ans
- 1. Poverty
 - 2. Loft
 - 3. Hardship
 - 4. Richness

Question ID : 26433072353
Status : Not Answered
Chosen Option : --

Q.7 Select the most appropriate option to fill in the blank.
William couldn't stop _____ against the comments of the officer.

- Ans
- 1. responding
 - 2. starting
 - 3. opening
 - 4. reacting

Question ID : 26433091379
Status : Not Answered
Chosen Option : --

Q.8 Select the correct idiom that can substitute the italicised group of words in the given sentence.

Soma has *made a mess* of her financial affairs.

- Ans
- 1. made both ends meet
 - 2. made a hash of
 - 3. made up one's mind
 - 4. made a mountain out of a molehill

Question ID : 26433084759

Status : Not Answered

Chosen Option : --

Q.9 Select the most appropriate meaning of the given idiom.

Steal someone's thunder

- Ans
- 1. To find it difficult to choose between two alternatives
 - 2. To follow a successful person's instructions
 - 3. To take the credit for something someone else did
 - 4. To imitate others

Question ID : 26433072852

Status : Not Answered

Chosen Option : --

Q.10 Select the correct pair of words for the blanks in the given sentence.

Jharkhand is a major _____ producing state in India whereas the union territory of Jammu & Kashmir is a _____ place.

- Ans
- 1. coal; cold
 - 2. cold; cold
 - 3. coal; coal
 - 4. cold; coal

Question ID : 26433060547

Status : Not Answered

Chosen Option : --

Q.11 Select the most appropriate ANTONYM of the given word.

Apparent

- Ans
- 1. Hidden
 - 2. Evident
 - 3. Actual
 - 4. Obvious

Question ID : 26433074050

Status : Not Answered

Chosen Option : --

Q.12 Select the option that can be used as a one-word substitute for the underlined group of words.

Johnson wrote a drama in which he discusses the study of chemistry in a medieval fashion.

- Ans 1. Alchemy
 2. Rhetoric
 3. Lexicography
 4. Anthropology

Question ID : 26433088613
Status : Not Answered
Chosen Option : --

Q.13 Select the most appropriate option that can substitute the underlined word in the given sentence. If there is no need to substitute it, select 'No substitution required'.
The talk was not understandable .

- Ans 1. comprehensive
 2. comprehensible
 3. No substitution required
 4. comprehended

Question ID : 264330101412
Status : Not Answered
Chosen Option : --

Q.14 Select the most appropriate option to fill in the blank with the synonym of the underlined word.

The film was a funny adaption of an old classic. The _____ depiction was well received by the audience.

- Ans 1. tropical
 2. humorous
 3. nervous
 4. trendy

Question ID : 26433094737
Status : Not Answered
Chosen Option : --

Q.15 Select the most appropriate ANTONYM of the word given in the brackets to fill in the blank.

She is a direct _____ (ancestor) of Queen Victoria.

- Ans 1. descendant
 2. forerunner
 3. antecedent
 4. primogenitor

Question ID : 26433088855
Status : Not Answered
Chosen Option : --

Comprehension:

In the following passage, some words have been deleted. Read the passage carefully and select the most appropriate option to fill in each blank.

Why does a person become overconfident? The reason lies in over assessment of his capabilities. Sometimes people over assess their (1) _____ and jump into situations that are beyond their control.

Napoleon Bonaparte who became Emperor of France would say that the word 'impossible' was common only (2) _____ fools. The overconfident Napoleon invaded Russia in the winter of 1812. This proved to be a big disaster.

Overconfidence generally (3) _____ people into misadventures, endangering their chances in life. It is wisely said that any achievement is a result of two factors – one's personal planning and support from the external world. People take into account only their planning, generally ignoring external factors. As a result they are unable to (4) _____ future developments. Hence, a great risk of failure.

Then there is the question: how can one manage overconfidence? The formula is very simple. Before making a decision, discuss the matter with other informed people with an objective mind and when it is proved that you are about to go off the path, accept reality and say without delay, "I was wrong".

Overconfidence is a (5) _____ characterising people who lack the virtue of modesty. Modesty makes you a realist; you become a person who is cut down to size. People of this kind become very cautious; before taking an action they assess the whole situation. They adopt a realistic approach.

SubQuestion No : 16

Q.16 Select the most appropriate option to fill in blank number 1.

- Ans 1. fidelity
 2. competence
 3. liability
 4. endowment

Question ID : 26433088919

Status : Not Answered

Chosen Option : --

Comprehension:

In the following passage, some words have been deleted. Read the passage carefully and select the most appropriate option to fill in each blank.

Why does a person become overconfident? The reason lies in over assessment of his capabilities. Sometimes people over assess their (1) _____ and jump into situations that are beyond their control.

Napoleon Bonaparte who became Emperor of France would say that the word 'impossible' was common only (2) _____ fools. The overconfident Napoleon invaded Russia in the winter of 1812. This proved to be a big disaster.

Overconfidence generally (3) _____ people into misadventures, endangering their chances in life. It is wisely said that any achievement is a result of two factors – one's personal planning and support from the external world. People take into account only their planning, generally ignoring external factors. As a result they are unable to (4) _____ future developments. Hence, a great risk of failure.

Then there is the question: how can one manage overconfidence? The formula is very simple. Before making a decision, discuss the matter with other informed people with an objective mind and when it is proved that you are about to go off the path, accept reality and say without delay, "I was wrong".

Overconfidence is a (5) _____ characterising people who lack the virtue of modesty. Modesty makes you a realist; you become a person who is cut down to size. People of this kind become very cautious; before taking an action they assess the whole situation. They adopt a realistic approach.

SubQuestion No : 17

Q.17 Select the most appropriate option to fill in blank number 2.

Ans 1. amongst

2. betwixt

3. through

4. mid

Question ID : 26433088920

Status : Not Answered

Chosen Option : --

Comprehension:

In the following passage, some words have been deleted. Read the passage carefully and select the most appropriate option to fill in each blank.

Why does a person become overconfident? The reason lies in over assessment of his capabilities. Sometimes people over assess their (1) _____ and jump into situations that are beyond their control.

Napoleon Bonaparte who became Emperor of France would say that the word 'impossible' was common only (2) _____ fools. The overconfident Napoleon invaded Russia in the winter of 1812. This proved to be a big disaster.

Overconfidence generally (3) _____ people into misadventures, endangering their chances in life. It is wisely said that any achievement is a result of two factors – one's personal planning and support from the external world. People take into account only their planning, generally ignoring external factors. As a result they are unable to (4) _____ future developments. Hence, a great risk of failure.

Then there is the question: how can one manage overconfidence? The formula is very simple. Before making a decision, discuss the matter with other informed people with an objective mind and when it is proved that you are about to go off the path, accept reality and say without delay, "I was wrong".

Overconfidence is a (5) _____ characterising people who lack the virtue of modesty. Modesty makes you a realist; you become a person who is cut down to size. People of this kind become very cautious; before taking an action they assess the whole situation. They adopt a realistic approach.

SubQuestion No : 18

Q.18 Select the most appropriate option to fill in blank number 3.

- Ans 1. leads
 2. attends
 3. manages
 4. convoys

Question ID : 26433088921

Status : Not Answered

Chosen Option : --

Comprehension:

In the following passage, some words have been deleted. Read the passage carefully and select the most appropriate option to fill in each blank.

Why does a person become overconfident? The reason lies in over assessment of his capabilities. Sometimes people over assess their (1) _____ and jump into situations that are beyond their control.

Napoleon Bonaparte who became Emperor of France would say that the word 'impossible' was common only (2) _____ fools. The overconfident Napoleon invaded Russia in the winter of 1812. This proved to be a big disaster.

Overconfidence generally (3) _____ people into misadventures, endangering their chances in life. It is wisely said that any achievement is a result of two factors – one's personal planning and support from the external world. People take into account only their planning, generally ignoring external factors. As a result they are unable to (4) _____ future developments. Hence, a great risk of failure.

Then there is the question: how can one manage overconfidence? The formula is very simple. Before making a decision, discuss the matter with other informed people with an objective mind and when it is proved that you are about to go off the path, accept reality and say without delay, "I was wrong".

Overconfidence is a (5) _____ characterising people who lack the virtue of modesty. Modesty makes you a realist; you become a person who is cut down to size. People of this kind become very cautious; before taking an action they assess the whole situation. They adopt a realistic approach.

SubQuestion No : 19

Q.19 Select the most appropriate option to fill in blank number 4.

- Ans 1. alert
 2. foresee
 3. look
 4. divine

Question ID : 26433088922

Status : Not Answered

Chosen Option : --

Comprehension:

In the following passage, some words have been deleted. Read the passage carefully and select the most appropriate option to fill in each blank.

Why does a person become overconfident? The reason lies in over assessment of his capabilities. Sometimes people over assess their (1) _____ and jump into situations that are beyond their control.

Napoleon Bonaparte who became Emperor of France would say that the word 'impossible' was common only (2) _____ fools. The overconfident Napoleon invaded Russia in the winter of 1812. This proved to be a big disaster.

Overconfidence generally (3) _____ people into misadventures, endangering their chances in life. It is wisely said that any achievement is a result of two factors – one's personal planning and support from the external world. People take into account only their planning, generally ignoring external factors. As a result they are unable to (4) _____ future developments. Hence, a great risk of failure.

Then there is the question: how can one manage overconfidence? The formula is very simple. Before making a decision, discuss the matter with other informed people with an objective mind and when it is proved that you are about to go off the path, accept reality and say without delay, "I was wrong".

Overconfidence is a (5) _____ characterising people who lack the virtue of modesty. Modesty makes you a realist; you become a person who is cut down to size. People of this kind become very cautious; before taking an action they assess the whole situation. They adopt a realistic approach.

SubQuestion No : 20

Q.20 Select the most appropriate option to fill in blank number 5.

- Ans
- 1. malformation
 - 2. kink
 - 3. impairment
 - 4. flaw

Question ID : 26433088923

Status : Not Answered

Chosen Option : --

Section : Part-D-Hindi

Q.1 'आटे दाल का _____ मालूम होना' इस मुहावरे को पूरा करें।

- Ans
- 1. भाव
 - 2. रुपया
 - 3. पैसा
 - 4. रंग

Question ID : 26433066817

Status : Answered

Chosen Option : 1

Q.2 मुझे अभी बहुत बातें सीखना है।
उपरोक्त वाक्य के किस भाग में अशुद्धि है?

- Ans
- 1. बातें
 - 2. सीखना है।
 - 3. अभी बहुत
 - 4. मुझे

Question ID : 26433079759

Status : Answered

Chosen Option : 2

Q.3 'ऐसे साहित्य के रचयिता अधिक मात्रा में व्याप्त हैं।' - वाक्य के रेखांकित भाग को उचित विकल्प चुनकर प्रतिस्थापित करें।

- Ans
- 1. अधिक मात्रा में विद्यमान
 - 2. अधिक संख्या में व्याप्त
 - 3. अधिक संख्या में विद्यमान
 - 4. बहुत मात्रा में विद्यमान

Question ID : 26433062810
Status : Answered
Chosen Option : 3

Q.4 निम्नलिखित विकल्पों में से कौनसा एक वाक्य अनुबद्ध क्रिया-विशेषण से सम्बन्ध नहीं रखता है?

- Ans
- 1. मैंने उसे देखा भर था।
 - 2. कल वह गया ही नहीं।
 - 3. सीता गा तो सकती है।
 - 4. यह कार्य तो किसी ने कर दिया।

Question ID : 26433091236
Status : Answered
Chosen Option : 2

Q.5 निम्नलिखित विकल्पों में से कौन सा एक वाक्य क्रिया-विशेषण से सम्बन्ध रखता है?

- Ans
- 1. घोड़ा बहुत तेज दौड़ता है।
 - 2. बच्चा रोता है।
 - 3. मोहन हँसता है।
 - 4. सोहन सोता है।

Question ID : 26433062948
Status : Answered
Chosen Option : 1

Q.6 'दाँतों तले उँगली दबाना' मुहावरे का उचित अर्थ है-

- Ans
- 1. बहुत भूख लगना
 - 2. खीस काढ़ना
 - 3. उँगली में दर्द होना
 - 4. चकित होना

Question ID : 26433065877
Status : Answered
Chosen Option : 4

Q.7 निम्न वाक्यांश के लिए एक शब्द का चयन कीजिए।
जिसका जन्म बाद में हुआ हो

- Ans
- 1. अन्या
 - 2. अनुज
 - 3. तनुज
 - 4. अतुल

Question ID : 26433070089
Status : Answered
Chosen Option : 2

Q.8 निम्नलिखित वाक्य में रिक्तस्थान की पूर्ति उचित एकार्थी शब्द से करें-
_____ का प्रकोप सब कुछ उखाड़ देता है जबकि _____ का प्रकोप सब कुछ जला देता है।

- Ans
- 1. सुंदर-तेज
 - 2. अग्नि-मार्ग
 - 3. अनिल-अनल
 - 4. अभिनेता-अग्नि

Question ID : 26433091324
Status : Answered
Chosen Option : 3

Q.9 नीचे दिए वाक्यांश के लिए उचित शब्द दिए गए विकल्पों में से चुनिए-
जिसके पास न पहुँचा जा सके

- Ans
- 1. अगेय
 - 2. अगवानी
 - 3. अगाध
 - 4. अगम्य

Question ID : 26433062384
Status : Answered
Chosen Option : 4

Q.10 'रौनक को चोट लगने पर _____ उपचार के लिए अस्पताल ले जाया गया।' वाक्य में रिक्त स्थान
की पूर्ति शुद्ध शब्द द्वारा कीजिए।

- Ans
- 1. तत्कालिक
 - 2. तत्कालिक
 - 3. तत्कलीन
 - 4. तात्कालिक

Question ID : 26433069706
Status : Answered
Chosen Option : 4

Q.11 'व्यायामशाला _____।' उपर्युक्त वाक्य में रिक्त स्थान पर आने वाले उपयुक्त विकल्प का चयन कीजिए।

- Ans
- 1. वह स्थान है, जहां बैठकर चर्चा होती है
 - 2. वह स्थान है, जहां व्यायाम किया जाता है
 - 3. वह स्थान है, जहां न्याय किया जाता है
 - 4. वह स्थान है, जहां हवन किया जाता है

Question ID : 26433067046

Status : Answered

Chosen Option : 2

Q.12 'दिवा-रात्रि' का निम्न में से कौन सा समानार्थी शब्द दिए गए वाक्य में रिक्त स्थान पर प्रयुक्त हो सकता है?
महाशिवरात्रि के समय लोग _____ जागते रहते हैं।

- Ans
- 1. भरपेट
 - 2. निर्जल
 - 3. अहर्निश
 - 4. दिनभर

Question ID : 26433079243

Status : Answered

Chosen Option : 3

Q.13 निम्न वाक्य में रेखांकित अंश के स्थान पर सबसे उपयुक्त शब्द का चयन विकल्पों में से कीजिए।
इंदिरा गांधी भारत की राजनेता थीं।

- Ans
- 1. अभिनेत्री
 - 2. राजनेत्री
 - 3. अभिनेता
 - 4. राजकुमारी

Question ID : 26433072581

Status : Answered

Chosen Option : 2

Q.14 'आज हवा का वेग अत्यंत तीव्र है।' उक्त वाक्य में प्रयुक्त 'तीव्र' के स्थान पर उसके विलोम शब्द का प्रयोग निम्न में से किस वाक्य में किया गया है?

- Ans
- 1. आज हवा का वेग अत्यंत तेज है।
 - 2. आज हवा का वेग अत्यंत उग्र है।
 - 3. आज हवा का वेग अत्यंत मंद है।
 - 4. आज हवा का वेग अत्यंत प्रखर है।

Question ID : 26433067025

Status : Answered

Chosen Option : 3

Q.15 जिनका जीवन काँटों के बीच बीतता है वही _____ की चुभन सह सकते हैं।
उपरोक्त वाक्य के रिक्त स्थान को काँटे के पर्याय से पूर्ण कीजिए।

- Ans
- 1. बाण
 - 2. शर
 - 3. शूल
 - 4. कील

Question ID : 26433080851

Status : Answered

Chosen Option : 3

Comprehension:

निम्नलिखित गद्यांश में कुछ शब्दों को हटा दिया गया है। दिए गए विकल्पों की सहायता से रिक्त स्थानों की पूर्ति कीजिए। प्रत्येक संख्या के लिए सबसे उपयुक्त विकल्प का चयन करें।

बच्चों का अपहरण करना, उन्हें बेचना अथवा उनसे ज़बरदस्ती मज़दूरी कराना 1. _____ अपराध है। सरकार द्वारा इस संबंध में 2. _____ बनाए गए हैं किन्तु उनके क्रियान्वयन का 3. _____ अन्य सरकारी संगठनों पर है। भारत में 5 से 15 वर्ष तक के 4. _____ मज़दूरों की संख्या लगभग एक करोड़ से कुछ ऊपर है। सरकारी तंत्र के साथ हमारे पूरे समाज को भी इस दिशा में 5. _____ होना होगा।

SubQuestion No : 16

Q.16 रिक्त स्थान 1 की पूर्ति के लिए सबसे उपयुक्त विकल्प का चयन कीजिए।

- Ans
- 1. दयनीय
 - 2. दंडनीय
 - 3. विफल
 - 4. सोचनीय

Question ID : 264330111107

Status : Answered

Chosen Option : 2

Comprehension:

निम्नलिखित गद्यांश में कुछ शब्दों को हटा दिया गया है। दिए गए विकल्पों की सहायता से रिक्त स्थानों की पूर्ति कीजिए। प्रत्येक संख्या के लिए सबसे उपयुक्त विकल्प का चयन करें।

बच्चों का अपहरण करना, उन्हें बेचना अथवा उनसे ज़बरदस्ती मज़दूरी कराना 1. _____ अपराध है। सरकार द्वारा इस संबंध में 2. _____ बनाए गए हैं किन्तु उनके क्रियान्वयन का 3. _____ अन्य सरकारी संगठनों पर है। भारत में 5 से 15 वर्ष तक के 4. _____ मज़दूरों की संख्या लगभग एक करोड़ से कुछ ऊपर है। सरकारी तंत्र के साथ हमारे पूरे समाज को भी इस दिशा में 5. _____ होना होगा।

SubQuestion No : 17

Q.17 रिक्त स्थान 2 की पूर्ति के लिए सबसे उपयुक्त विकल्प का चयन कीजिए।

- Ans
- 1. पुस्तकें
 - 2. समय
 - 3. कानून
 - 4. विचार

Question ID : 264330111108

Status : Answered

Chosen Option : 3

Comprehension:

निम्नलिखित गद्यांश में कुछ शब्दों को हटा दिया गया है। दिए गए विकल्पों की सहायता से रिक्त स्थानों की पूर्ति कीजिए। प्रत्येक संख्या के लिए सबसे उपयुक्त विकल्प का चयन करें।

बच्चों का अपहरण करना, उन्हें बेचना अथवा उनसे ज़बरदस्ती मज़दूरी कराना 1. _____ अपराध है। सरकार द्वारा इस संबंध में 2. _____ बनाए गए हैं किन्तु उनके क्रियान्वयन का 3. _____ अन्य सरकारी संगठनों पर है। भारत में 5 से 15 वर्ष तक के 4. _____ मज़दूरों की संख्या लगभग एक करोड़ से कुछ ऊपर है। सरकारी तंत्र के साथ हमारे पूरे समाज को भी इस दिशा में 5. _____ होना होगा।

SubQuestion No : 18

Q.18 रिक्त स्थान 3 की पूर्ति के लिए सबसे उपयुक्त विकल्प का चयन कीजिए।

- Ans
- 1. अभ्यस्त
 - 2. उत्तरदायित्व
 - 3. अहित
 - 4. संबंध

Question ID : 264330111109

Status : Answered

Chosen Option : 2

Comprehension:

निम्नलिखित गद्यांश में कुछ शब्दों को हटा दिया गया है। दिए गए विकल्पों की सहायता से रिक्त स्थानों की पूर्ति कीजिए। प्रत्येक संख्या के लिए सबसे उपयुक्त विकल्प का चयन करें।

बच्चों का अपहरण करना, उन्हें बेचना अथवा उनसे ज़बरदस्ती मज़दूरी कराना 1. _____ अपराध है। सरकार द्वारा इस संबंध में 2. _____ बनाए गए हैं किन्तु उनके क्रियान्वयन का 3. _____ अन्य सरकारी संगठनों पर है। भारत में 5 से 15 वर्ष तक के 4. _____ मज़दूरों की संख्या लगभग एक करोड़ से कुछ ऊपर है। सरकारी तंत्र के साथ हमारे पूरे समाज को भी इस दिशा में 5. _____ होना होगा।

SubQuestion No : 19

Q.19 रिक्त स्थान 4 की पूर्ति के लिए सबसे उपयुक्त विकल्प का चयन कीजिए।

- Ans
- 1. श्रमिक
 - 2. बाल
 - 3. बड़े
 - 4. मेहनती

Question ID : 264330111110

Status : Answered

Chosen Option : 2

Comprehension:

निम्नलिखित गद्यांश में कुछ शब्दों को हटा दिया गया है। दिए गए विकल्पों की सहायता से रिक्त स्थानों की पूर्ति कीजिए। प्रत्येक संख्या के लिए सबसे उपयुक्त विकल्प का चयन करें।

बच्चों का अपहरण करना, उन्हें बेचना अथवा उनसे ज़बरदस्ती मज़दूरी कराना 1. _____ अपराध है। सरकार द्वारा इस संबंध में 2. _____ बनाए गए हैं किन्तु उनके क्रियान्वयन का 3. _____ अन्य सरकारी संगठनों पर है। भारत में 5 से 15 वर्ष तक के 4. _____ मज़दूरों की संख्या लगभग एक करोड़ से कुछ ऊपर है। सरकारी तंत्र के साथ हमारे पूरे समाज को भी इस दिशा में 5. _____ होना होगा।

SubQuestion No : 20

Q.20 रिक्त स्थान 5 की पूर्ति के लिए सबसे उपयुक्त विकल्प का चयन कीजिए।

- Ans
- 1. नियमित
 - 2. निष्क्रिय
 - 3. सक्रिय
 - 4. व्यक्तिगत

Question ID : 264330111111

Status : Answered

Chosen Option : 3

KD Job Updates

Constable GD in CAPFs SSF Rifleman GD in Assam Rifles and Sepoy in NCB Examination 2022

Roll Number	KD Job Updates
Candidate Name	KD Job Updates
Venue Name	iON Digital Zone iDZ Kishanpur
Exam Date	11/01/2023
Exam Time	5:15 PM - 6:15 PM
Subject	Constable GD Examination 2022

Section : Part-A-General Intelligence and Reasoning

Q.1 उस विकल्प का चयन कीजिए जो पांचवें अक्षर-समूह से उसी प्रकार संबंधित है जिस प्रकार दूसरा अक्षर-समूह पहले अक्षर-समूह से संबंधित है और चौथा अक्षर-समूह तीसरे अक्षर-समूह से संबंधित है।
DOWN: VKCL:: ARMY: YHMA :: HOME:?

- Ans
- 1. TMOW
 - 2. GNLD
 - 3. SLNV
 - 4. RKMU

Question ID : 26433057495

Status : Answered

Chosen Option : 2

Q.2 एक निश्चित कूट भाषा में, BRAVE को 48 के रूप में कूटबद्ध किया जाता है और SPEAR को 59 के रूप में कूटबद्ध किया जाता है। उसी भाषा में VICTOR को किस प्रकार कूटबद्ध किया जाएगा?

- Ans
- 1. 85
 - 2. 83
 - 3. 87
 - 4. 81

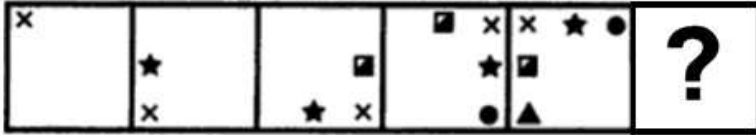
Question ID : 26433067996

Status : Answered

Chosen Option : 3

Q.3 दिए गए विकल्पों में से उस आकृति का चयन करें जो निम्नलिखित श्रृंखला में

प्रश्नवाचक चिह्न (?) का स्थान ले सकती है।



Ans

- 1.
- 2.
- 3.
- 4.

Question ID : 26433080496

Status : Answered

Chosen Option : 1

Q.4 छः मित्र (P, Q, R, S, T और U) एक वृत्ताकार मेज के परितः मेज के केंद्र की ओर मुख करके बैठे हैं। P, U के दाईं ओर दूसरे स्थान पर बैठा है। R, Q के दाईं ओर तीसरे स्थान पर बैठा है। S और R, दोनों ही P के ठीक बगल में हैं। Q और P के बीच में कौन बैठा है?

1. S
2. T
3. R
4. U

Question ID : 26433092774

Status : Answered

Chosen Option : 1

Q.5 एक निश्चित कूट भाषा में 'TRAVEL' को '156' के रूप में लिखा जाता है, 'PERSON' को '174' के रूप में लिखा जाता है, तो उसी भाषा में 'ALMOND' को किस प्रकार से लिखा जाएगा?

Ans 1. 120

2. 59

3. 118

4. 64

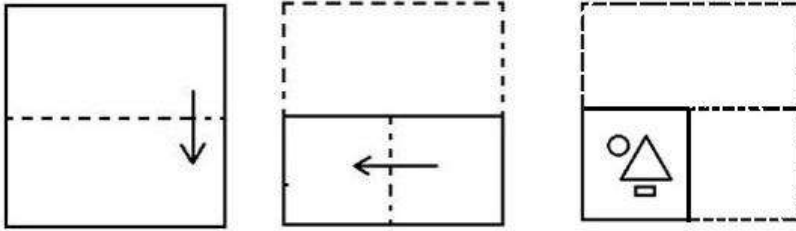
Question ID : 26433083113

Status : Answered

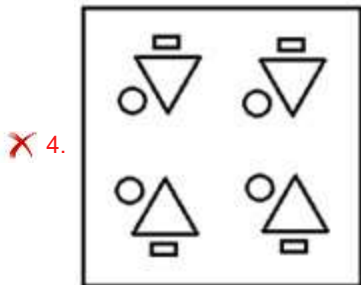
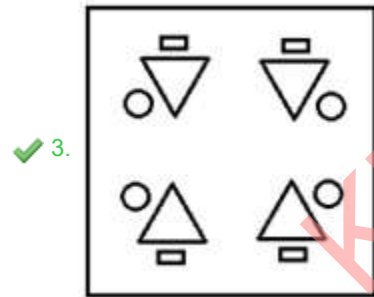

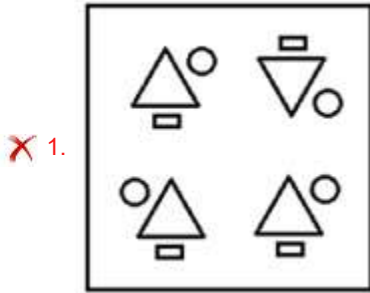
Chosen Option : 3

KD Job Updates

Q.6 एक कागज को मोड़ने का क्रम और मुड़े हुए कागज को काटने का तरीका नीचे दर्शाया गया है। उस आकृति का चयन करें जो कागज को खोले जाने पर उसके खुले रूप से सबसे अधिक मिलती-जुलती है।



Ans



Question ID : 26433087098

Status : Answered

Chosen Option : 3

Q.7 किस विकल्प में निम्नलिखित शब्दों का वह क्रम दिया गया है, जिस क्रम में वे अंग्रेजी शब्दकोश में आते हैं?

- 1 Bread
- 2 Brain
- 3 Break
- 4 Broom
- 5 Bridge

- Ans
- 1. 3,2,1,4,5
 - 2. 2,3,1,4,5
 - 3. 2,1,3,5,4
 - 4. 3,1,2,4,5

Question ID : 26433069319

Status : Answered

Chosen Option : 3

Q.8 छः उम्मीदवार - आनंद, बालू, चरण, दिनेश, इमरान और फरहाद, एक सामूहिक चर्चा के लिए किसी वृत्ताकार मेज पर मेज के केंद्र की ओर मुख करके एक दूसरे से समान दूरी पर बैठे हैं। दिनेश, इमरान और बालू के ठीक बगल में बैठा है, जबकि चरण, आनंद और फरहाद के ठीक बगल में बैठा है। यदि फरहाद, बालू के दाईं ओर ठीक बगल में बैठा है, तो दिनेश के दाईं ओर ठीक बगल में कौन बैठा है?

- Ans
- 1. इमरान
 - 2. फरहाद
 - 3. आनंद
 - 4. बालू

Question ID : 26433079053

Status : Answered

Chosen Option : 4

Q.9 दिए गए समीकरण में % चिह्नों को क्रमिक रूप से बदलने और समीकरण को संतुलित करने के लिए निम्नलिखित विकल्पों में से गणितीय चिह्नों के सही संयोजन का चयन कीजिए।
48 % 12 % 5 % 5 % 4

- Ans
- 1. ÷, ×, =, ×
 - 2. ×, ÷, =, -
 - 3. ×, =, -, ÷
 - 4. ÷, ×, =, -

Question ID : 26433087047

Status : Answered

Chosen Option : 1

Q.10 दर्पण को नीचे दिए गए चित्र के अनुसार MN पर रखे जाने पर दी गई आकृति

का दर्पण में निर्मित सही प्रतिबिंब चयनित कीजिए।

x C w V 5 2 3 A
M ————— N

- Ans
- ✗ 1. X C M V 2 5 3 A
 - ✗ 2. X C M Λ 5 5 3 A
 - ✓ 3. X C M Λ 2 5 3 A
 - ✗ 4. X C M Λ 2 2 3 A

Question ID : 26433080805
Status : Answered
Chosen Option : 3

Q.11 निम्नलिखित में से कौन-सी संख्या दी गई श्रृंखला में प्रश्न-चिह्न (?) के स्थान पर आएगी?
23, 24, 50, 153, ?

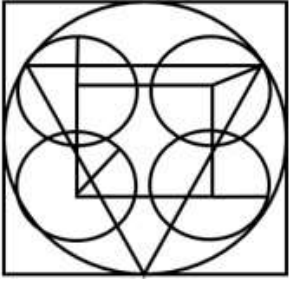
- Ans
- ✗ 1. 512
 - ✗ 2. 204
 - ✓ 3. 616
 - ✗ 4. 516

Question ID : 26433082004
Status : Not Answered
Chosen Option : --

KD Job Updates

Q.12 उस विकल्प-आकृति का चयन कीजिए, जो प्रस्तुत आकृति में अंतर्निहित है।

(घुमाना अनुमन्य नहीं है)



Ans

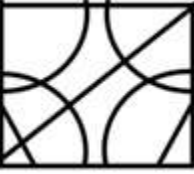
✓ 1.



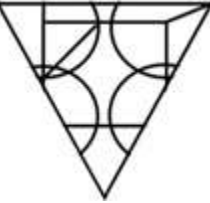
✗ 2.



✗ 3.



✗ 4.



Question ID : 26433076580

Status : Answered

Chosen Option : 2

Q.13 उस समुच्चय का चयन करें, जिसमें संख्याएँ उसी प्रकार संबंधित हैं, जिस प्रकार निम्नलिखित समुच्चयों की संख्याएँ हैं।

(नोट: संख्याओं को उसके घटक अंकों में विभाजित किए बिना, पूर्ण संख्याओं पर ही गणितीय संक्रियाएँ की जानी चाहिए। जैसे 13 - मान लीजिए 13 पर गणितीय संक्रियाएँ जैसे कि 13 में जोड़ना/घटाना/गुणा करना आदि किया जा सकता है। 13 को 1 और 3 में तोड़कर और फिर 1 और 3 पर गणितीय संक्रियाएँ करने की अनुमति नहीं है।)

(11, 20, 341)

(25, 33, 638)

Ans ✗ 1. (20, 25, 625)

✓ 2. (12, 32, 484)

✗ 3. (12, 29, 341)

✗ 4. (14, 17, 363)

Question ID : 26433076488

Status : Not Answered

Chosen Option : --

Q.14 कौन-सा अक्षर-समूह दी गई श्रृंखला में प्रश्नचिह्न (?) के स्थान पर आकर श्रृंखला को पूर्ण करेगा?
AKED, ENGE, ?, MTKG, QWMH

- Ans 1. IQIF
 2. IQJE
 3. IQJF
 4. IRIF

Question ID : 26433068576
Status : Answered
Chosen Option : 1

Q.15 निम्नलिखित में से कौन सी संख्या दी गई श्रृंखला में प्रश्नचिह्न (?) के स्थान पर आएगी?
50, 60, 51, 62, 54, 66, 59, 72, ?

- Ans 1. 64
 2. 65
 3. 71
 4. 66

Question ID : 26433082868
Status : Answered
Chosen Option : 4

Q.16 निम्नलिखित में से कौन-सा अक्षर-समूह दी गई श्रृंखला में प्रश्न-चिह्न (?) के स्थान पर आएगा?
XEJT, UHMQ, ?, ONSK, LQVH

- Ans 1. SKQN
 2. RKPN
 3. RLPN
 4. RKQM

Question ID : 26433076447
Status : Answered
Chosen Option : 2

Q.17 उस विकल्प का चयन कीजिए, जो पाँचवें अक्षर-समूह से उसी प्रकार संबंधित है, जिस प्रकार दूसरा अक्षर-समूह पहले अक्षर-समूह से संबंधित है और चौथा अक्षर-समूह तीसरे अक्षर-समूह से संबंधित है।
EXPLAIN : AEILNPX :: MEDICAL : AEICDLM :: PRIVACY : ?

- Ans 1. AICRPVY
 2. ACIPVRY
 3. AICPRVY
 4. AICPRYV

Question ID : 26433082629
Status : Not Answered
Chosen Option : --

Q.18 इस प्रश्न में तीन कथन दिए गए हैं, जिसके बाद दो निष्कर्ष I और II दिए गए हैं। कथनों को सत्य मानते हुए, भले ही वे सर्वज्ञात तथ्यों से भिन्न प्रतीत होते हों, निर्णय कीजिए कि कौन-सा/से निष्कर्ष कथनों का तार्किक रूप से अनुसरण करता है/अनुसरण करते हैं।

कथन:

सभी नोटबुक गुलाबी हैं।

सभी गुलाबी शर्ट हैं।

कुछ शर्ट ट्राउजर हैं।

निष्कर्ष:

I. सभी ट्राउजर नोटबुक हैं।

II. कुछ ट्राउजर गुलाबी हैं।

Ans 1. न तो निष्कर्ष I और न ही II अनुसरण करता है।

2. केवल निष्कर्ष II अनुसरण करता है।

3. केवल निष्कर्ष I अनुसरण करता है।

4. निष्कर्ष I और II दोनों अनुसरण करते हैं।

Question ID : 26433070394

Status : Answered

Chosen Option : 2

Q.19 A # B का अर्थ है 'A, B का भाई है'
A @ B का अर्थ है 'A, B की पुत्री है'
A & B का अर्थ है 'A, B का पति है'
A % B का अर्थ है 'A, B की पत्नी है'
A * B का अर्थ है 'A, B का पुत्र है'
यदि M*G@K@B%A*W है, तो A, G से किस प्रकार संबंधित है?

Ans 1. नाना

2. माता

3. पिता

4. भाई

Question ID : 26433082533

Status : Answered

Chosen Option : 1

Q.20 नीचे दिए गए समीकरण को गणितीय रूप से सही बनाने के लिए किन दो चिन्हों को परस्पर बदलना चाहिए?

$$112 - 14 \div 40 + 8 \times 12 = 64$$

Ans 1. + और ×

2. - और +

3. ÷ और -

4. + और ÷

Question ID : 264330117543

Status : Answered

Chosen Option : 3

Q.1 भारत में, हरित क्रांति का पहला चरण _____ के दशक के मध्य से _____ के दशक के मध्य तक था।

- Ans
- 1. 1950, 1960
 - 2. 1970, 1980
 - 3. 1940, 1950
 - 4. 1960, 1970

Question ID : 264330115412

Status : Answered

Chosen Option : 4

Q.2 _____ (NPS) एक स्वैच्छिक, परिभाषित योगदान सेवानिवृत्ति बचत योजना है जो ग्राहकों को सुव्यवस्थित बचत से अपने भविष्य के बारे में इष्टतम निर्णय लेने में सक्षम बनाती है।

- Ans
- 1. राष्ट्रीय परमिट प्रणाली
 - 2. राष्ट्रीय भुगतान योजना
 - 3. राष्ट्रीय भुगतानकर्ता प्रणाली
 - 4. राष्ट्रीय पेंशन प्रणाली

Question ID : 264330116174

Status : Answered

Chosen Option : 4

Q.3 भारत में, दशकीय जनगणना कराने की जिम्मेदारी किस मंत्रालय की होती है?

- Ans
- 1. गृह मंत्रालय
 - 2. कारपोरेट कार्य मंत्रालय
 - 3. वित्त मंत्रालय
 - 4. सांख्यिकी मंत्रालय

Question ID : 264330116037

Status : Answered

Chosen Option : 4

Q.4 1 मई 2022 से नीति आयोग के नये उपाध्यक्ष के रूप में पदभार किसने संभाला?

- Ans
- 1. गीता गोपीनाथ
 - 2. डॉ. हिरेन जोशी
 - 3. रंजन गोगोई
 - 4. सुमन बेरी

Question ID : 264330115033

Status : Answered

Chosen Option : 1

Q.5 2019 में, भारत _____ मिलियन टन इस्पात का विनिर्माण कर संसार में कच्चा इस्पात उत्पादकों में दूसरे स्थान पर था।

- Ans
- 1. 198
 - 2. 111
 - 3. 71
 - 4. 234

Question ID : 264330115577
Status : Answered
Chosen Option : 4

Q.6 एशियाई खेल 2018 का आयोजन निम्नलिखित में से किस देश में किया गया था?

- Ans
- 1. इंडोनेशिया
 - 2. थाईलैंड
 - 3. मालदीव
 - 4. सिंगापुर

Question ID : 264330116256
Status : Answered
Chosen Option : 1

Q.7 कोशिका - आकार का निम्नलिखित में से कौन सा युग्म सही है?

- I. लाल रक्त कोशिकाएँ - गोलाकार
- II. पेशी कोशिका - तर्कुरूपी

- Ans
- 1. केवल I
 - 2. I तथा II दोनों
 - 3. ना तो I ना तो II
 - 4. केवल II

Question ID : 264330115211
Status : Not Answered
Chosen Option : --

Q.8 हेमिस पर्व मुख्य रूप से _____ में मनाया जाता है।

- Ans
- 1. लद्दाख
 - 2. चंडीगढ़
 - 3. पुदुचेरी
 - 4. लक्षद्वीप

Question ID : 26433094885
Status : Answered
Chosen Option : 1

Q.9 पुरुषों की श्रेणी में फेंके जाने वाले डिस्कस में प्रयुक्त डिस्कस का व्यास और वजन कितना होता है?

- Ans
- 1. वजन में 2.5 kg और व्यास में 22 cm
 - 2. वजन में 2 kg और व्यास में 23 cm
 - 3. वजन में 3 kg और व्यास में 24 cm
 - 4. वजन में 2 kg और व्यास में 22 cm

Question ID : 264330115930

Status : Answered

Chosen Option : 1

Q.10 निम्नलिखित में से कौन से तत्व की परमाणु संख्या 33 है?

- Ans
- 1. नियॉन
 - 2. बेरियम
 - 3. आर्सेनिक
 - 4. आयोडीन

Question ID : 264330115169

Status : Answered

Chosen Option : 3

Q.11 ऊपर से मृदा की तीसरी परत की पहचान कीजिए।

- Ans
- 1. अधःस्तरीय अपक्षयित आधारी चट्टानें
 - 2. उप मृदा
 - 3. अपक्षय रहित आधारी चट्टानें
 - 4. ऊपरी मृदा

Question ID : 26433091492

Status : Answered

Chosen Option : 3

Q.12 निम्नलिखित में से कौन-सा कर्तव्य, भारतीय संविधान में 42वें संशोधन द्वारा नहीं जोड़ा गया था?

- Ans
- 1. भारत की प्रभुता, एकता और अखंडता की रक्षा करना और उसे अक्षुण्ण रखना
 - 2. छः से चौदह वर्ष की आयु के बीच के बच्चे या प्रतिपाल्य को शिक्षा के अवसर प्रदान करना
 - 3. देश की सामसिक संस्कृति की गौरवशाली परंपरा का महत्व समझना और इसका परिरक्षित करना
 - 4. सार्वजनिक संपत्ति की रक्षा करना और हिंसा से दूर रहना

Question ID : 26433090666

Status : Answered

Chosen Option : 4

Q.13 सितंबर 2022 में भारतीय रिजर्व बैंक द्वारा यस बैंक के गैर-कार्यकारी अंशकालिक अध्यक्ष के रूप में किसे मंजूरी दी गई थी?

- Ans
- 1. रघुराम राजन
 - 2. रामा सुब्रमण्यम गांधी
 - 3. शक्तिकांत दास
 - 4. ओसबोर्न स्मिथ

Question ID : 264330114950
Status : Answered
Chosen Option : 2

Q.14 1971 के भारत-पाक युद्ध के समय कौन सी पंचवर्षीय योजना भारत में चल रही थी?

- Ans
- 1. दूसरी
 - 2. छठी
 - 3. आठवीं
 - 4. चौथी

Question ID : 264330116127
Status : Answered
Chosen Option : 4

Q.15 'गोफ' नृत्य किस राज्य का प्रसिद्ध लोक नृत्य है?

- Ans
- 1. बिहार
 - 2. गोवा
 - 3. ओडिशा
 - 4. उत्तर प्रदेश

Question ID : 26433074073
Status : Not Answered
Chosen Option : --

Q.16 _____ के पास भारत में बैंक नोट जारी करने का एकमात्र अधिकार है।

- Ans
- 1. प्रतिभूति बैंक
 - 2. विश्व बैंक
 - 3. भारतीय रिजर्व बैंक
 - 4. भारतीय स्टेट बैंक

Question ID : 264330115330
Status : Answered
Chosen Option : 3

Q.17 अपर्णा सतीसन को किस नृत्य शैली में उत्कृष्ट प्रदर्शन के लिए प्रतिष्ठित भरत शास्त्र नृत्य प्रवीण राष्ट्रीय पुरस्कार से सम्मानित किया गया है?

- Ans 1. कुचिपुड़ी
 2. भरतनाट्यम
 3. कथकली
 4. लावणी

Question ID : 264330115828

Status : Not Answered

Chosen Option : --

Q.18 चूंकि मौर्य साम्राज्य इतना बड़ा था, इसलिए अलग-अलग हिस्सों पर अलग-अलग शासन किया जाता था। _____ के आसपास के इलाकों पर सम्राट का सीधा नियंत्रण था।

- Ans 1. पाटलिपुत्र
 2. तक्षशिला
 3. लुम्बिनी
 4. उज्जैन

Question ID : 26433085222

Status : Answered

Chosen Option : 1

Q.19 निम्नलिखित में से क्या राष्ट्रपति पद की उम्मीदवारी के लिए एक आवश्यक योग्यता नहीं है?

- Ans 1. लोकसभा के सदस्य के रूप में चुनाव के लिए योग्य
 2. पैंतीस वर्ष की न्यूनतम आयु
 3. भारत का नागरिक
 4. उच्च शिक्षा

Question ID : 264330115664

Status : Answered

Chosen Option : 4

Q.20 खलिफ़ा की तात्कालिक शक्तियों की रक्षा के लिए _____ में बंबई में एक ख़िलाफ़त समिति का गठन किया गया था।

- Ans 1. मई 1918
 2. मार्च 1918
 3. मई 1919
 4. मार्च 1919

Question ID : 264330115720

Status : Answered

Chosen Option : 4

Q.1 एक व्यक्ति एक स्थान से दूसरे स्थान तक 180 km /h की चाल से यात्रा करता है और उसी मार्ग से 240 km /h की चाल से प्रारंभिक बिंदु पर लौटता है। यदि कुल 6 घंटे का समय लिया गया है, तो दोनों स्थानों के बीच की दूरी ज्ञात कीजिए।

- Ans
- 1. 872.26 km
 - 2. 650.28 km
 - 3. 617.14 km
 - 4. 720.84 km

Question ID : 26433080047

Status : Not Answered

Chosen Option : --

Q.2 एक घनाभ की लंबाई, चौड़ाई और ऊंचाई क्रमशः 24 cm, 18 cm और 12 cm है। छोटे घन बनाने के लिए इसे पिघलाया जाता है। यदि घन की भुजा की लंबाई 6 cm है, तो निर्मित घनों की संख्या क्या होगी?

- Ans
- 1. 22
 - 2. 26
 - 3. 24
 - 4. 18

Question ID : 26433075713

Status : Not Answered

Chosen Option : --

Q.3 एक दुकानदार गलत वजन का उपयोग करते हुए वस्तु को क्रय मूल्य पर बेचने का दावा करता है और 25% का लाभ प्राप्त करता है। 1000 ग्राम के स्थान पर वह कितने वजन का उपयोग करता है?

- Ans
- 1. 800 g
 - 2. 850 g
 - 3. 750 g
 - 4. 975 g

Question ID : 26433080020

Status : Not Answered

Chosen Option : --

Q.4 लंबाई 10 m, चौड़ाई 6 m और ऊँचाई 8 m वाले किसी घनाभिय कमरे में रखी जा सकने वाली छड़ की अधिकतम लंबाई (m में) ज्ञात कीजिए।

- Ans
- 1. $10\sqrt{2}$
 - 2. $9\sqrt{2}$
 - 3. $15\sqrt{2}$
 - 4. $12\sqrt{2}$

Question ID : 26433074475

Status : Answered

Chosen Option : 1

Q.5 एक पिज्जा के लिए चीज़ और सॉस का अनुपात 1 कप और $\frac{1}{2}$ कप है। यदि रमा ने एक निश्चित संख्या में पिज्जा बनाने के लिए 15 कप सॉस का इस्तेमाल किया, तो उसने उस पिज्जा पर कितने कप चीज़ का इस्तेमाल किया?

- Ans
- 1. 10
 - 2. 20
 - 3. 40
 - 4. 30

Question ID : 26433075812

Status : Answered

Chosen Option : 4

Q.6 A एक कार्य का 80%, 20 दिनों में पूरा करता है। फिर B, A के साथ शामिल हो जाता है और वे शेष कार्य को 3 दिनों में पूरा करते हैं। B को अकेले पूरे कार्य को समाप्त करने में कितना समय लगेगा?

- Ans
- 1. $35\frac{1}{2}$ दिन
 - 2. $37\frac{1}{2}$ दिन
 - 3. 39 दिन
 - 4. 40 दिन

Question ID : 26433075163

Status : Not Answered

Chosen Option : --

Q.7 एक वस्तु पर, एक दुकानदार अंकित मूल्य पर 7.5% की छूट और ₹10 प्रति वस्तु का कैशबैक देता है। वह अभी भी ₹5 प्रति वस्तु कमाता है। यदि ₹x प्रत्येक वस्तु का अंकित मूल्य है, तो प्रत्येक वस्तु का क्रय मूल्य (₹ में) क्या है?

- Ans
- 1. $0.915x - 5$
 - 2. $0.925x - 5$
 - 3. $0.915x - 15$
 - 4. $0.925x - 15$

Question ID : 26433085451

Status : Answered

Chosen Option : 2

Q.8 $\frac{16 \times 9 \div 4 \text{ of } 2}{3 \times (9-6) - 2 \times 3 \div 4 \text{ of } \frac{1}{2}}$ का मान _____ है।

- Ans 1.3
 2.36
 3.9
 4.18

Question ID : 26433075752
Status : Answered
Chosen Option : 1

Q.9 संख्या 73, 115 और 185 को एक संख्या से विभाजित किया जाता है जिससे समान शेष प्राप्त होता है।
ऐसी सबसे बड़ी संभव संख्या ज्ञात करें।

- Ans 1.11
 2.5
 3.14
 4.7

Question ID : 264330116667
Status : Answered
Chosen Option : 3

Q.10 एक साइकिल चालक 2 घंटे और 30 मिनट में 20 मील और 1 घंटे 15 मिनट में 10 मील की यात्रा करता है। मील प्रति घंटे में औसत चाल की गणना करें।

- Ans 1.6
 2.4
 3.8
 4.10

Question ID : 26433081550
Status : Not Answered
Chosen Option : --

Q.11 एक साइकिल सवार और एक जॉगर एक निश्चित दूरी को एक निश्चित चाल से तय करते हैं। यदि जॉगर, साइकिल सवार द्वारा तय की गयी दूरी की एक-तिहाई दूरी को साइकिल सवार द्वारा लिए गए समय के दुगुने समय में तय करता है, तो जॉगर और साइकिल सवार की चाल का अनुपात क्या है?

- Ans 1.1 : 9
 2.6 : 1
 3.1 : 6
 4.9 : 1

Question ID : 26433075441
Status : Answered
Chosen Option : 2

Q.12 ₹5,000 पर 1 वर्ष के लिए 4% वार्षिक ब्याज की दर से, वार्षिक और अर्ध-वार्षिक रूप से चक्रवृद्धि किए जाने पर, चक्रवृद्धि ब्याज में अंतर कितना होगा?

- Ans
- 1. ₹2.00
 - 2. ₹3.20
 - 3. ₹19.04
 - 4. ₹2.04

Question ID : 26433076330

Status : Answered

Chosen Option : 1

Q.13 अंकिता ने मूल मूल्य पर 10 प्रतिशत छूट पर कुछ खिलौने खरीदे। प्रत्येक खिलौने का मूल मूल्य 50 रुपए था। यदि उसने 450 रुपए की कुल बचत की, तो उसने कितने खिलौने खरीदे?

- Ans
- 1. 75
 - 2. 90
 - 3. 50
 - 4. 45

Question ID : 264330116743

Status : Answered

Chosen Option : 2

Q.14 एक पुरुष का व्यय उसकी आय का 70% है। यदि उसकी आय में 20% और 50% की दो क्रमिक वृद्धि होती है, तो उसका नया व्यय उसके पिछले व्यय से कितना प्रतिशत अधिक/कम है, ताकि उसकी नयी बचत पिछली बचत की 2.5 गुनी हो जाए?

- Ans
- 1. 54% अधिक
 - 2. 50% अधिक
 - 3. 54% कम
 - 4. 50% कम

Question ID : 26433081066

Status : Answered

Chosen Option : 2

Q.15 गीता और राधा के पास रुपयों का अनुपात 7 : 15 है तथा राधा और सविता के पास रुपयों का अनुपात 7 : 16 है। यदि गीता के पास ₹980 हैं, तो सविता के पास कितने रुपये हैं?

- Ans
- 1. ₹9,800
 - 2. ₹2,100
 - 3. ₹4,800
 - 4. ₹2,400

Question ID : 26433076184

Status : Answered

Chosen Option : 3

Q.16 एक तेज़ लोकल ट्रेन 60 km की यात्रा के लिए धीमी लोकल ट्रेन से 30 मिनट कम समय लेती है। यदि धीमी लोकल ट्रेन की चाल, तेज़ लोकल ट्रेन की चाल से 20 km/h कम है, तो धीमी लोकल ट्रेन की चाल क्या है?

- Ans
- 1. 30 km/h
 - 2. 50 km/h
 - 3. 40 km/h
 - 4. 60 km/h

Question ID : 26433080289

Status : Answered

Chosen Option : 3

Q.17 साक्षी और कोमल मिलकर एक कार्य को 10 दिनों में पूरा कर सकते हैं। कोमल उसी कार्य को 22 दिनों में पूरा कर सकती है। उन्होंने एक साथ कार्य शुरू किया लेकिन साक्षी ने 3 दिन बाद कार्य छोड़ दिया और कोमल ने शेष कार्य अकेले पूरा किया। दिनों की कुल संख्या ज्ञात करें जिसमें कार्य पूरा हुआ।

- Ans
- 1. 97/5 दिन
 - 2. 88/5 दिन
 - 3. 92/5 दिन
 - 4. 44/5 दिन

Question ID : 264330116858

Status : Answered

Chosen Option : 2

Q.18 किसी धनराशि से 15% घटाने के बाद, शेषफल से पुनः 25% घटाने पर ₹4,335 बचते हैं। वास्तविक मूल्य ज्ञात कीजिए।

- Ans
- 1. ₹6,500
 - 2. ₹7,000
 - 3. ₹6,700
 - 4. ₹6,800

Question ID : 26433080155

Status : Not Answered

Chosen Option : --

Q.19 एक बैंक ब्याज को अर्ध-वार्षिक संयोजित करके 10% प्रतिवर्ष की दर से चक्रवृद्धि ब्याज प्रदान करता है। एक ग्राहक एक वर्ष की पहली जनवरी और पहली जुलाई प्रत्येक को Rs.3,200 जमा करता है। वर्ष के अंत में, उसे ब्याज के रूप में प्राप्त होने वाली राशि क्या है?

- Ans
- 1. Rs.720
 - 2. Rs.528
 - 3. Rs.656
 - 4. Rs.488

Question ID : 26433072972

Status : Not Answered

Chosen Option : --

Q.20 एक महिला किसी वस्तु को Rs.950 में खरीदती है और उसे Rs.1,150 में बेच देती है। उसका प्रतिशत लाभ कितना है (निकटतम पूर्णांक में पूर्णांकित)?

- Ans
- 1. 22%
 - 2. 23%
 - 3. 20%
 - 4. 21%

Question ID : 26433075758

Status : Not Answered

Chosen Option : --

Section : Part-D-English

Q.1 Select the most appropriate option that can substitute the underlined segment in the given sentence. If there is no need to substitute it, select 'No substitution'.

She has barely made it to the airport, when she heard the news of her dad's accident.

- Ans
- 1. have barely made it
 - 2. is barely making it
 - 3. No substitution
 - 4. had barely made it

Question ID : 26433089112

Status : Not Answered

Chosen Option : --

Q.2 Identify and correct the INCORRECTLY spelt word in the given sentence.

The floveres in the garden seemed as if they refused to bloom for spraying pesticides on them.

- Ans
- 1. pestisides
 - 2. flowers
 - 3. refuced
 - 4. blome

Question ID : 26433072762

Status : Not Answered

Chosen Option : --

Q.3 Select the most appropriate meaning of the given idiom.

Go the extra mile

- Ans
- 1. Talk more than required
 - 2. Walk more than required
 - 3. Spend more money than required
 - 4. Do much more than required

Question ID : 26433072676

Status : Not Answered

Chosen Option : --

Q.4 Select the option that expresses the given sentence in future tense form.

We were holding the things with a strong rope.

- Ans
- 1. We were being holding the things with a strong rope.
 - 2. We are holding the things with a strong rope.
 - 3. We will be holding the things with a strong rope.
 - 4. We have been holding the things with a strong rope.

Question ID : 26433089293
Status : Not Answered
Chosen Option : --

Q.5 Select the correct word for the blanks in the given sentence.

A _____ is a nocturnal animal and a _____ is needed for the game of cricket.

- Ans
- 1. goal
 - 2. bales
 - 3. ball
 - 4. bat

Question ID : 26433060534
Status : Not Answered
Chosen Option : --

Q.6 Select the most appropriate option that can substitute the underlined segment in the given sentence. If there is no need to substitute it, select 'No substitution'.
Prince Charles became a youngest heir to the throne at the age of seven.

- Ans
- 1. No substitution
 - 2. the youngest heir to the throne
 - 3. a youngest heir to a throne
 - 4. the youngest heir to an throne

Question ID : 26433092939
Status : Not Answered
Chosen Option : --

Q.7 Select the most appropriate set of words to complete the sentence.

I want to see the Dussehra _____ in Delhi, what is the second-class railway _____ from Agra to Delhi.

- Ans
- 1. fair; fare
 - 2. fair; fair
 - 3. fare; fair
 - 4. fare; fare

Question ID : 26433088871
Status : Not Answered
Chosen Option : --

Q.8 Select the most appropriate option to fill in the blank.

Her face was _____ after seeing the house in such condition.

- Ans 1. blue
 2. bedew
 3. blew
 4. brew

Question ID : 26433090393
Status : Not Answered
Chosen Option : --

Q.9 Select the most appropriate meaning of the given idiom.

Flash in the pan

- Ans 1. A place where people gather to buy and sell inexpensive goods
 2. Someone who helps others when they are in need, with no discussion for compensation, and no thought of a reward
 3. Not willing or wanting to change from your normal way of doing something
 4. Something that looks promising in the beginning but fails to deliver anything in the end

Question ID : 26433073715
Status : Not Answered
Chosen Option : --

Q.10 Select the most appropriate ANTONYM of the given word.

Inspid

- Ans 1. Tasty
 2. Explicit
 3. Immense
 4. Opaque

Question ID : 26433071978
Status : Not Answered
Chosen Option : --

Q.11 Select the most appropriate synonym of the underlined word from the given options.

The benevolent lady donated her estate for the welfare of the city.

- Ans 1. Insane
 2. Charming
 3. Foolish
 4. Gracious

Question ID : 26433086516
Status : Not Answered
Chosen Option : --

Q.12 Select the INCORRECTLY spelt word.

Ans 1. Phenomenon

2. Dampness

3. Slaughter

4. Anthropology

Question ID : 26433073514

Status : Not Answered

Chosen Option : --

Q.13 Select the most appropriate ANTONYM of the given word.

Autonomy

Ans 1. Righteousness

2. Dependency

3. Partiality

4. Temperance

Question ID : 26433086517

Status : Not Answered

Chosen Option : --

Q.14 Select the most appropriate synonym of the given word.

Compact

Ans 1. Holistic

2. Whole

3. Expand

4. Dense

Question ID : 26433084890

Status : Not Answered

Chosen Option : --

Q.15 Select the most appropriate option that can substitute the underlined segment in the given sentence.

Your health could suffer if you spend more time with the automobiles.

Ans 1. in front of electronic devices

2. besides the machines

3. after the digital devices

4. in backlog of machines

Question ID : 26433089800

Status : Not Answered

Chosen Option : --

Comprehension:

In the following passage, some words have been deleted. Read the passage carefully and select the most appropriate option to fill in each blank.

The most common health conditions (1)_____ people today include heart disease, stroke, diabetes, and cancer. When people are experiencing these conditions, they (2)_____ the illness side of the spectrum. Lifestyle factors that put you at risk for developing these conditions include smoking, alcohol substance use disorder, lack of exercise, sleep (3)_____, and a diet rich in processed foods, sugar, saturated fat, and artificial flavours. An (4)_____ weight is another factor that can put one at risk for these conditions, especially carrying extra weight (5)_____ your midsection.

SubQuestion No : 16

Q.16 Select the most appropriate option to fill in blank 1.

- Ans 1. facing
 2. against
 3. towards
 4. looking

Question ID : 26433089843

Status : Not Answered

Chosen Option : --

Comprehension:

In the following passage, some words have been deleted. Read the passage carefully and select the most appropriate option to fill in each blank.

The most common health conditions (1)_____ people today include heart disease, stroke, diabetes, and cancer. When people are experiencing these conditions, they (2)_____ the illness side of the spectrum. Lifestyle factors that put you at risk for developing these conditions include smoking, alcohol substance use disorder, lack of exercise, sleep (3)_____, and a diet rich in processed foods, sugar, saturated fat, and artificial flavours. An (4)_____ weight is another factor that can put one at risk for these conditions, especially carrying extra weight (5)_____ your midsection.

SubQuestion No : 17

Q.17 Select the most appropriate option to fill in blank 2.

- Ans 1. count to
 2. pass off
 3. fall into
 4. dive in

Question ID : 26433089844

Status : Not Answered

Chosen Option : --

Comprehension:

In the following passage, some words have been deleted. Read the passage carefully and select the most appropriate option to fill in each blank.

The most common health conditions (1)_____ people today include heart disease, stroke, diabetes, and cancer. When people are experiencing these conditions, they (2)_____ the illness side of the spectrum. Lifestyle factors that put you at risk for developing these conditions include smoking, alcohol substance use disorder, lack of exercise, sleep (3)_____, and a diet rich in processed foods, sugar, saturated fat, and artificial flavours. An (4)_____ weight is another factor that can put one at risk for these conditions, especially carrying extra weight (5)_____ your midsection.

SubQuestion No : 18

Q.18 Select the most appropriate option to fill in blank 3.

- Ans
- 1. desire
 - 2. impoverishment
 - 3. deprivation
 - 4. poverty

Question ID : 26433089845

Status : Not Answered

Chosen Option : --

Comprehension:

In the following passage, some words have been deleted. Read the passage carefully and select the most appropriate option to fill in each blank.

The most common health conditions (1)_____ people today include heart disease, stroke, diabetes, and cancer. When people are experiencing these conditions, they (2)_____ the illness side of the spectrum. Lifestyle factors that put you at risk for developing these conditions include smoking, alcohol substance use disorder, lack of exercise, sleep (3)_____, and a diet rich in processed foods, sugar, saturated fat, and artificial flavours. An (4)_____ weight is another factor that can put one at risk for these conditions, especially carrying extra weight (5)_____ your midsection.

SubQuestion No : 19

Q.19 Select the most appropriate option to fill in blank 4.

- Ans
- 1. empirical
 - 2. unhealthy
 - 3. unhygienic
 - 4. contaminated

Question ID : 26433089846

Status : Not Answered

Chosen Option : --

Comprehension:

In the following passage, some words have been deleted. Read the passage carefully and select the most appropriate option to fill in each blank.

The most common health conditions (1)_____ people today include heart disease, stroke, diabetes, and cancer. When people are experiencing these conditions, they (2)_____ the illness side of the spectrum. Lifestyle factors that put you at risk for developing these conditions include smoking, alcohol substance use disorder, lack of exercise, sleep (3)_____, and a diet rich in processed foods, sugar, saturated fat, and artificial flavours. An (4)_____ weight is another factor that can put one at risk for these conditions, especially carrying extra weight (5)_____ your midsection.

SubQuestion No : 20

Q.20 Select the most appropriate option to fill in blank 5.

- Ans 1. directing
 2. around
 3. against
 4. concerning

Question ID : 26433089847

Status : Not Answered

Chosen Option : --

Section : Part-D-Hindi

Q.1 निम्नलिखित वाक्य के किस खंड में त्रुटि है?
जहां तक हमारा विचार तो यही है।

- Ans 1. जहां तक
 2. यही है।
 3. हमारा
 4. विचार

Question ID : 26433066757

Status : Answered

Chosen Option : 2

Q.2 इनमें से कौन-सा शब्द 'अग्नि' का पर्यायवाची नहीं है?

- Ans 1. अनल
 2. अभंग
 3. हुताशन
 4. पावक

Question ID : 26433066895

Status : Answered

Chosen Option : 2

Q.3 निम्नलिखित विकल्पों में से किस एक वाक्य में 'असुर' शब्द के लिए उचित पर्यायवाची का प्रयोग हुआ है?

- Ans
- 1. श्याम घमण्डी है।
 - 2. रजनीचर का स्वभाव दुष्टतापूर्ण होता है।
 - 3. वह दम्भ करता है।
 - 4. दर्प अच्छा नहीं होता है।

Question ID : 26433091188

Status : Answered

Chosen Option : 2

Q.4 हमें किसी बूढ़े व्यक्ति के _____ का तिरस्कार नहीं करना चाहिए।
उचित भाववाचक संज्ञा से वाक्य पूर्ण कीजिए।

- Ans
- 1. मोटापे
 - 2. बूढ़ा
 - 3. बुढ़ापे
 - 4. चाल-चलन

Question ID : 26433062853

Status : Answered

Chosen Option : 3

Q.5 उसके पक्ष में अनेक लोग हैं।
रेखांकित शब्द के विलोम शब्द का चयन कीजिए।

- Ans
- 1. निपक्ष
 - 2. विपक्ष
 - 3. कुपक्ष
 - 4. सपक्ष

Question ID : 26433079645

Status : Answered

Chosen Option : 2

Q.6 'टट्टी की ओट से शिकार खेलना' मुहावरे का अर्थ है-

- Ans
- 1. छल कपट से काम लेना
 - 2. बलपूर्वक काम निकालना
 - 3. छिप कर शिकार करना
 - 4. तनिक भी प्रभावित न होना

Question ID : 26433069948

Status : Answered

Chosen Option : 4

Q.7 गीतों की लड़ियाँ
उपरोक्त अशुद्ध वाक्य-खंड का शुद्ध रूप क्या होगा?

- Ans
- 1. गीतों की कड़ियाँ
 - 2. गीतों की बेड़ियाँ
 - 3. गीतों की कमियाँ
 - 4. गीतों की छड़ियाँ

Question ID : 26433063061
Status : Answered
Chosen Option : 3

Q.8 दिए गये वाक्यांश के लिए सार्थक शब्द बताइए – 'दोपहर के बाद का समय'

- Ans
- 1. पूर्वमध्याह्न
 - 2. अपराह्न
 - 3. मध्याह्न
 - 4. पूर्वाह्न

Question ID : 26433062586
Status : Answered
Chosen Option : 2

Q.9 अगले माह वसंत ऋतु प्रारंभ होगी।

रेखांकित शब्द के विलोम शब्द का चयन कीजिए।

- Ans
- 1. ठंडी
 - 2. ग्रीष्म
 - 3. गरम
 - 4. पतझड़

Question ID : 26433066910
Status : Answered
Chosen Option : 4

Q.10 निम्नलिखित में से विशेषण शब्द का उदाहरण है-

- Ans
- 1. समाज
 - 2. भारत
 - 3. भारतीय
 - 4. धन

Question ID : 26433085051
Status : Answered
Chosen Option : 3

Q.11 निम्नलिखित मुहावरे का उचित अर्थ विकल्पों में से चुनिए।
मुट्टी गरम करना

- Ans 1. घूस देना
 2. शुभारंभ करना
 3. धाक जमाना
 4. कलंक लगाना

Question ID : 26433069999
Status : Answered
Chosen Option : 1

Q.12 'जिसकी सीमा न हो' वाक्यांश के लिए उचित शब्द बताइए-

- Ans 1. सीमांकित
 2. परिसीमित
 3. ससीम
 4. असीम

Question ID : 26433065909
Status : Answered
Chosen Option : 4

Q.13 निम्नलिखित वाक्य में रेखांकित खंड के स्थान पर प्रयुक्त होने वाले सबसे उपयुक्त विकल्प का चयन कीजिए-

टब पानी से ठूसमठूस भरा है।

- Ans 1. ठसाठस
 2. चकाचक
 3. लबालब
 4. फुलमफुल

Question ID : 26433079667
Status : Answered
Chosen Option : 3

Q.14 निम्नलिखित वाक्य के किस शब्द में अशुद्धि है?
देशों में यह बीमारि कोरोना के कारण फैली थी।

- Ans 1. बीमारि
 2. कोरोना
 3. कारण
 4. फैली

Question ID : 26433066767
Status : Answered
Chosen Option : 1

Q.15 निम्नलिखित वाक्यांश के लिय उपयुक्त सार्थक शब्द है:
जो समान न हो

- Ans
- 1. बराबर
 - 2. एक समान
 - 3. खुराक
 - 4. विषम

Question ID : 26433065757

Status : Answered

Chosen Option : 4

Comprehension:

निम्नलिखित गद्यांश में से कुछ शब्दों को हटा दिया गया है। गद्यांश के आधार पर पूछे गए प्रश्नों में इसके रिक्त स्थान पर आने वाले उपयुक्त शब्दों का चयन कीजिए।

क्या आपने कभी इस बात पर गम्भीरतापूर्वक 1 _____ किया है कि आज हम जो कुछ भी हैं उसमें किस-किस का योगदान है? माता का, मातृभूमि का, मातृभाषा का, या फिर इन सब का? एक 2 _____ हमें जन्म देती है, एक के आंगन में खेल-कूद कर तथा खा-पी कर हम पुष्ट होते हैं और एक हमें अपने विचारों, भावों इत्यादि को प्रकट करने की शक्ति देती है। इसी शक्ति के अभाव में हम गूंगे और बहरे बन कर रह जाते हैं। यह शक्ति हम पर पूर्ण रूप से मनुष्य बनाने का उपकार करती है। इस उपकार का 3 _____ हम पर सबसे अधिक है। इसी ऋण से मुक्त होने के लिए हमें सच्चे मन से उसकी सेवा करनी चाहिए। विदेशी भाषा के सम्मुख इसका तिरस्कार नहीं करना चाहिए तभी हम अपनी 4 _____ के सच्चे सपूत कहलाएँगे किन्तु यह काम इतना सरल नहीं है। यह काम तो तलवार की 5 _____ पर चलने का है।

SubQuestion No : 16

Q.16 रिक्त स्थान 1 पर आने वाला सर्वाधिक उपयुक्त शब्द इनमें से क्या होगा?

- Ans
- 1. समझ
 - 2. विचार
 - 3. सोच
 - 4. इच्छा

Question ID : 26433072600

Status : Answered

Chosen Option : 2

Comprehension:

निम्नलिखित गद्यांश में से कुछ शब्दों को हटा दिया गया है। गद्यांश के आधार पर पूछे गए प्रश्नों में इसके रिक्त स्थान पर आने वाले उपयुक्त शब्दों का चयन कीजिए।

क्या आपने कभी इस बात पर गम्भीरतापूर्वक 1 _____ किया है कि आज हम जो कुछ भी हैं उसमें किस-किस का योगदान है? माता का, मातृभूमि का, मातृभाषा का, या फिर इन सब का? एक 2 _____ हमें जन्म देती है, एक के आंगन में खेल-कूद कर तथा खा-पी कर हम पुष्ट होते हैं और एक हमें अपने विचारों, भावों इत्यादि को प्रकट करने की शक्ति देती है। इसी शक्ति के अभाव में हम गूंगे और बहरे बन कर रह जाते हैं। यह शक्ति हम पर पूर्ण रूप से मनुष्य बनाने का उपकार करती है। इस उपकार का 3 _____ हम पर सबसे अधिक है। इसी ऋण से मुक्त होने के लिए हमें सच्चे मन से उसकी सेवा करनी चाहिए। विदेशी भाषा के सम्मुख इसका तिरस्कार नहीं करना चाहिए तभी हम अपनी 4 _____ के सच्चे सपूत कहलाएँगे किन्तु यह काम इतना सरल नहीं है। यह काम तो तलवार की 5 _____ पर चलने का है।

SubQuestion No : 17

Q.17 रिक्त स्थान 2 पर आने वाला सर्वाधिक उपयुक्त शब्द इनमें से क्या होगा?

- Ans
- 1. पिता
 - 2. भाई
 - 3. बहन
 - 4. जननी

Question ID : 26433072601

Status : Answered

Chosen Option : 4

Comprehension:

निम्नलिखित गद्यांश में से कुछ शब्दों को हटा दिया गया है। गद्यांश के आधार पर पूछे गए प्रश्नों में इसके रिक्त स्थान पर आने वाले उपयुक्त शब्दों का चयन कीजिए।

क्या आपने कभी इस बात पर गम्भीरतापूर्वक 1 _____ किया है कि आज हम जो कुछ भी हैं उसमें किस-किस का योगदान है? माता का, मातृभूमि का, मातृभाषा का, या फिर इन सब का? एक 2 _____ हमें जन्म देती है, एक के आंगन में खेल-कूद कर तथा खा-पी कर हम पुष्ट होते हैं और एक हमें अपने विचारों, भावों इत्यादि को प्रकट करने की शक्ति देती है। इसी शक्ति के अभाव में हम गूंगे और बहरे बन कर रह जाते हैं। यह शक्ति हम पर पूर्ण रूप से मनुष्य बनाने का उपकार करती है। इस उपकार का 3 _____ हम पर सबसे अधिक है। इसी ऋण से मुक्त होने के लिए हमें सच्चे मन से उसकी सेवा करनी चाहिए। विदेशी भाषा के सम्मुख इसका तिरस्कार नहीं करना चाहिए तभी हम अपनी 4 _____ के सच्चे सपूत कहलाएँगे किन्तु यह काम इतना सरल नहीं है। यह काम तो तलवार की 5 _____ पर चलने का है।

SubQuestion No : 18

Q.18 रिक्त स्थान 3 पर आने वाला सर्वाधिक उपयुक्त शब्द इनमें से क्या होगा?

- Ans
- 1. नगद
 - 2. पैसा
 - 3. मुद्रा
 - 4. ऋण

Question ID : 26433072602

Status : Answered

Chosen Option : 4

Comprehension:

निम्नलिखित गद्यांश में से कुछ शब्दों को हटा दिया गया है। गद्यांश के आधार पर पूछे गए प्रश्नों में इसके रिक्त स्थान पर आने वाले उपयुक्त शब्दों का चयन कीजिए।

क्या आपने कभी इस बात पर गम्भीरतापूर्वक 1 _____ किया है कि आज हम जो कुछ भी हैं उसमें किस-किस का योगदान है? माता का, मातृभूमि का, मातृभाषा का, या फिर इन सब का? एक 2 _____ हमें जन्म देती है, एक के आंगन में खेल-कूद कर तथा खा-पी कर हम पुष्ट होते हैं और एक हमें अपने विचारों, भावों इत्यादि को प्रकट करने की शक्ति देती है। इसी शक्ति के अभाव में हम गूंगे और बहरे बन कर रह जाते हैं। यह शक्ति हम पर पूर्ण रूप से मनुष्य बनाने का उपकार करती है। इस उपकार का 3 _____ हम पर सबसे अधिक है। इसी ऋण से मुक्त होने के लिए हमें सच्चे मन से उसकी सेवा करनी चाहिए। विदेशी भाषा के सम्मुख इसका तिरस्कार नहीं करना चाहिए तभी हम अपनी 4 _____ के सच्चे सपूत कहलाएँगे किन्तु यह काम इतना सरल नहीं है। यह काम तो तलवार की 5 _____ पर चलने का है।

SubQuestion No : 19

Q.19 रिक्त स्थान 4 पर आने वाला सर्वाधिक उपयुक्त शब्द इनमें से क्या होगा?

- Ans
- 1. देश
 - 2. शहर
 - 3. मातृभूमि
 - 4. गाँव

Question ID : 26433072603

Status : Answered

Chosen Option : 3

Comprehension:

निम्नलिखित गद्यांश में से कुछ शब्दों को हटा दिया गया है। गद्यांश के आधार पर पूछे गए प्रश्नों में इसके रिक्त स्थान पर आने वाले उपयुक्त शब्दों का चयन कीजिए।

क्या आपने कभी इस बात पर गम्भीरतापूर्वक 1 _____ किया है कि आज हम जो कुछ भी हैं उसमें किस-किस का योगदान है? माता का, मातृभूमि का, मातृभाषा का, या फिर इन सब का? एक 2 _____ हमें जन्म देती है, एक के आंगन में खेल-कूद कर तथा खा-पी कर हम पुष्ट होते हैं और एक हमें अपने विचारों, भावों इत्यादि को प्रकट करने की शक्ति देती है। इसी शक्ति के अभाव में हम गूंगे और बहरे बन कर रह जाते हैं। यह शक्ति हम पर पूर्ण रूप से मनुष्य बनाने का उपकार करती है। इस उपकार का 3 _____ हम पर सबसे अधिक है। इसी ऋण से मुक्त होने के लिए हमें सच्चे मन से उसकी सेवा करनी चाहिए। विदेशी भाषा के सम्मुख इसका तिरस्कार नहीं करना चाहिए तभी हम अपनी 4 _____ के सच्चे सपूत कहलाएँगे किन्तु यह काम इतना सरल नहीं है। यह काम तो तलवार की 5 _____ पर चलने का है।

SubQuestion No : 20

Q.20 रिक्त स्थान 5 पर आने वाला सर्वाधिक उपयुक्त शब्द इनमें से क्या होगा?

- Ans
- 1. रास्ता
 - 2. किनारा
 - 3. धार
 - 4. नोक

Question ID : 26433072604

Status : Answered

Chosen Option : 4

Constable GD in CAPFs SSF Rifleman GD in Assam Rifles and Sepoy in NCB Examination 2022

Roll Number	KD Job Updates
Candidate Name	KD Job Updates
Venue Name	Sri Balaji College Of Engineering And Technology
Exam Date	12/01/2023
Exam Time	9:00 AM - 10:00 AM
Subject	Constable GD Examination 2022

Section : Part-A-General Intelligence and Reasoning

Q.1 निम्नलिखित में से कौन-सा पद दी गई श्रृंखला में प्रश्न-चिह्न (?) के स्थान पर आएगा?
RHWC, QKVF, ? , OQTL, NTSO

- Ans 1. PNUI
 2. QNUI
 3. ONUJ
 4. PMUJ

Question ID : 26433068309
Status : Answered
Chosen Option : 1

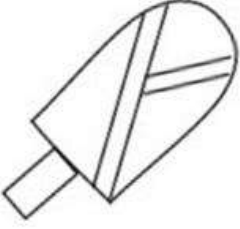
Q.2 नीचे दिए गए समीकरण को गणितीय रूप से सही बनाने के लिए किन दो चिन्हों को परस्पर बदलना चाहिए?
 $24 + 36 - 81 \times 9 \div 2 = 42$

- Ans 1. + और -
 2. × और +
 3. + और ×
 4. + और -

Question ID : 264330117500
Status : Answered
Chosen Option : 3

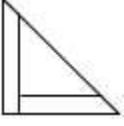
Q.3 वह विकल्प चित्र चुनिए, जो प्रस्तुत चित्र में अंतर्निहित है। (घुमाना अनुमन्य नहीं

है)

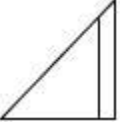


Ans

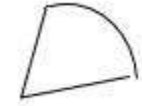
✗ 1.



✗ 2.



✓ 3.



✗ 4.



Question ID : 26433069344

Status : Answered

Chosen Option : 3

Q.4 उस विकल्प का चयन कीजिए जो पांचवें अक्षर-समूह से उसी प्रकार संबंधित है जिस प्रकार दूसरा अक्षर-समूह पहले अक्षर-समूह से संबंधित है और चौथा अक्षर-समूह तीसरे अक्षर-समूह से संबंधित है।
SURGERY : TVSHFSZ :: SILENCE : TJMFODF :: SOCIETY : ?

Ans ✗ 1. CIETYSO

✓ 2. TPDJFUZ

✗ 3. COSYTEI

✗ 4. YTEICOS

Question ID : 26433069638

Status : Answered

Chosen Option : 2

Q.5 6 व्यक्ति - A, B, C, D, E और F, एक वृत्ताकार मेज के परितः केंद्र के विपरीत मुख करके बैठे हैं। B, A के बाईं ओर ठीक बगल में बैठा है। F, A के दाईं ओर ठीक बगल में बैठा है। E, F और D के ठीक बगल में बैठा है। C, D के दाईं ओर ठीक बगल में बैठा है। इनमें से कौन A और C के ठीक बगल में बैठा है?

- Ans
- 1. D
 - 2. E
 - 3. F
 - 4. B

Question ID : 26433074608

Status : Answered

Chosen Option : 4

Q.6 एक निश्चित कूट भाषा में, 'FAVOUR' को 'RUOVAF' के रूप में लिखा जाता है और 'REVEAL' को 'LAEVER' के रूप में लिखा जाता है। उसी भाषा में 'MIRACLE' को कैसे लिखा जाएगा?

- Ans
- 1. ECLARMI
 - 2. ELCARIM
 - 3. ECLRAIM
 - 4. EMLCRIA

Question ID : 26433082559

Status : Answered

Chosen Option : 2

Q.7 एक निश्चित कूट भाषा में, 'HUSBAND' को 'DNABSUH' लिखा जाता है और 'CLEARLY' को 'YLRAELC' लिखा जाता है। उसी भाषा में 'HARBOUR' कैसे लिखा जाएगा?

- Ans
- 1. ORUBHRA
 - 2. RUOBRAH
 - 3. ORUBRAH
 - 4. RUOBRHA

Question ID : 26433068891

Status : Answered

Chosen Option : 2

Q.8 दिए गए समीकरण में % चिह्नों को क्रमिक रूप से बदलने और समीकरण को संतुलित करने के लिए निम्नलिखित विकल्पों में से गणितीय चिह्नों के सही संयोजन का चयन कीजिए।
42 % 7 % 5% 10 % 3

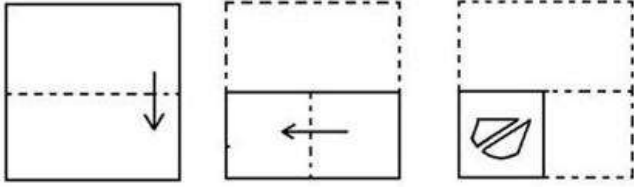
- Ans
- 1. ×, =, -, ÷
 - 2. ×, ÷, =, -
 - 3. ÷, ×, =, ×
 - 4. ÷, ×, =, -

Question ID : 26433087046

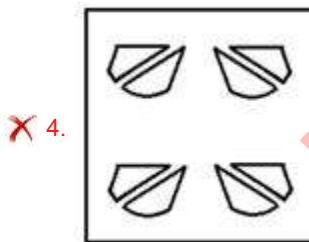
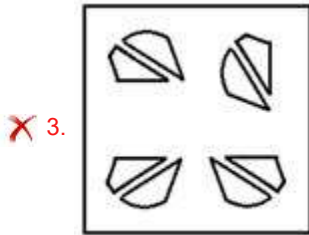
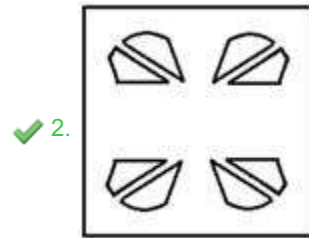
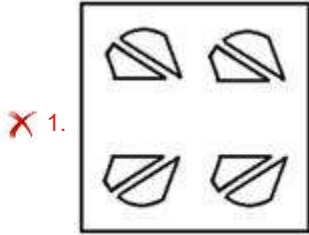
Status : Answered

Chosen Option : 3

Q.9 एक कागज को मोड़ने का क्रम और मुड़े हुए कागज को काटने का तरीका नीचे दर्शाया गया है। उस आकृति का चयन करें जो कागज को खोले जाने पर उसके खुले रूप से सबसे अधिक मिलती-जुलती है।



Ans

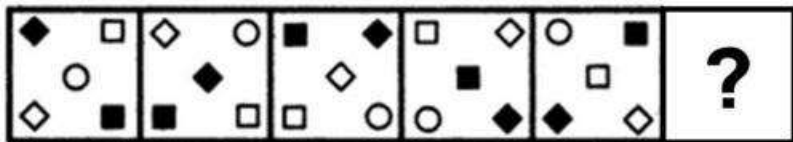


KD Job Updates

Question ID : 26433087096
 Status : Answered
 Chosen Option : 2

Q.10 दिए गए विकल्पों में से उस आकृति का चयन करें जो निम्नलिखित श्रृंखला में

प्रश्नवाचक चिह्न (?) का स्थान ले सकती है।



Ans

✗ 1.



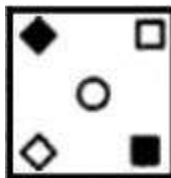
✗ 2.



✗ 3.



✓ 4.



Question ID : 26433080495

Status : Answered

Chosen Option : 4

Q.11 उस विकल्प का चयन करें जो पांचवें अक्षर-समूह से उसी प्रकार संबंधित है जिस प्रकार दूसरा अक्षर-समूह पहले अक्षर-समूह से संबंधित है और चौथा अक्षर-समूह तीसरे अक्षर-समूह से संबंधित है।

KSW : NUX :: AGP : DIQ :: EOY : ?

Ans ✗ 1. HOW

✗ 2. BQW

✓ 3. HQW

✗ 4. BQU

Question ID : 26433057747

Status : Answered

Chosen Option : 3

Q.12 निम्नलिखित में से कौन-सी संख्या दी गई श्रृंखला में प्रश्न-चिह्न (?) के स्थान पर आएगी?
1, 2, 2, 4, 3, 6, 4, 8, ?

- Ans
- 1. 10
 - 2. 5
 - 3. 9
 - 4. 7

Question ID : 26433082003
Status : Answered
Chosen Option : 2

Q.13 कौन-सा अक्षर-समूह दी गई श्रृंखला में प्रश्नचिह्न (?) के स्थान पर आकर श्रृंखला को पूर्ण करेगा?

SEJW, QGMT, OIPQ, ? , K MVK

- Ans
- 1. MKTM
 - 2. MKMT
 - 3. MKTN
 - 4. MKSN

Question ID : 26433068575
Status : Answered
Chosen Option : 4

Q.14 निम्नलिखित में से कौन-सी संख्या दी गई श्रृंखला में प्रश्न-चिह्न (?) का स्थान लेगी?
1483, 2369, ?, 4141, 5027, 5913

- Ans
- 1. 3119
 - 2. 2869
 - 3. 3189
 - 4. 3255

Question ID : 26433068091
Status : Answered
Chosen Option : 4

Q.15 A @ B का अर्थ है 'A, B की बहन है'।
A & B का अर्थ है 'A, B का भाई है'।
A # B का अर्थ है 'A, B की पत्नी है'।
A ^ B का अर्थ है 'A, B की माता है'।
A + B का अर्थ है 'A, B के पिता हैं'।
यदि Z & P + N ^ Q # S & V + E @ L है, तो निम्नलिखित में से कौन-सा कथन सही नहीं है?

- Ans
- 1. Q, E की माता है।
 - 2. P, Q के नाना हैं।
 - 3. N, S की सास है।
 - 4. V, L के पिता हैं।

Question ID : 26433068953
Status : Answered
Chosen Option : 1

Q.16 उस समुच्चय का चयन करें, जिसकी संख्याओं के बीच ठीक वही संबंध है, जो संबंध निम्नांकित समुच्चयों की संख्याओं में हैं।
(नोट: संख्याओं को उसके घटक अंकों में विभाजित किए बिना, पूर्ण संख्याओं पर ही गणितीय संक्रियाएँ की जानी चाहिए। जैसे 13 - मान लीजिए 13 पर गणितीय संक्रियाएँ जैसे कि 13 में जोड़ना/घटाना/गुणा करना आदि किया जा सकता है। 13 को 1 और 3 में तोड़कर और फिर 1 और 3 पर गणितीय संक्रियाएँ करने की अनुमति नहीं है।)
(17, 136, 40)
(11, 198, 90)

- Ans
- 1. (24, 96, 25)
 - 2. (12, 228, 105)
 - 3. (9, 135, 70)
 - 4. (12, 108, 45)

Question ID : 26433076548

Status : Answered

Chosen Option : 4

Q.17 तीन कथनों के बाद तीन निष्कर्ष I, II और III दिए गए हैं। कथनों को सत्य मानते हुए, भले ही वे सामान्य रूप से ज्ञात तथ्यों से भिन्न प्रतीत होते हों, निर्णय लीजिए कि कौन-सा/से निष्कर्ष कथनों का तार्किक रूप से अनुसरण करता/करते है/हैं।
कथन:
कुछ पेड़ मछली हैं।
सभी मछलियां बकरियां हैं।
कोई बकरी फूल नहीं है।
निष्कर्ष:
I. कुछ पेड़ बकरियां हैं।
II. कुछ मछलियां फूल नहीं हैं।
III. कुछ फूल बकरियां नहीं हैं।

- Ans
- 1. सभी निष्कर्ष अनुसरण करते हैं।
 - 2. केवल निष्कर्ष I अनुसरण करता है।
 - 3. केवल निष्कर्ष II अनुसरण करता है।
 - 4. केवल निष्कर्ष III अनुसरण करता है।

Question ID : 26433081794

Status : Answered

Chosen Option : 1

Q.18 किस विकल्प में निम्नलिखित शब्दों का वह क्रम दिया गया है, जिस क्रम में वे अंग्रेजी शब्दकोश में आते हैं?
1 Jacket
2 Japanese
3 Jabbed
4 Jackpot
5 Janitor

- Ans
- 1. 3,5,2,1,4
 - 2. 3,1,2,5,4
 - 3. 3,1,4,5,2
 - 4. 3,2,1,4,5

Question ID : 26433069318

Status : Answered

Chosen Option : 3

Q.19 आठ मित्र- P, Q, R, S, T, U, V और W एक दूसरे की ओर मुख करके दो पंक्तियों में बैठे हैं। प्रत्येक पंक्ति में चार व्यक्ति हैं। Q और R एक दूसरे के सामने बैठे हैं। R, S और T के ठीक बगल में है। W, T के बाईं ओर ठीक बगल में बैठा है। W और U विकर्णतः सामने हैं। V और Q एक दूसरे के बगल में नहीं बैठे हैं। T के सामने कौन बैठा है?

- Ans
- 1. S
 - 2. P
 - 3. R
 - 4. Q

Question ID : 26433079065

Status : Answered

Chosen Option : 2

Q.20 दर्पण को चित्र में दिखाए अनुसार MN पर रखे जाने पर दी गई आकृति के सही दर्पण प्रतिबिंब का चयन करें।



- Ans
- 1. J I @ e 4 m u n w
 - 2. J I @ e 4 w u n m
 - 3. J I e @ 4 w u n m
 - 4. J I e @ 4 m u n w

Question ID : 26433082333

Status : Answered

Chosen Option : 2

Section : Part-B-General Knowledge and General awareness

Q.1 स्वदेशी आंदोलन का लोगों पर सबसे अधिक प्रभाव किस क्षेत्र में पड़ा?

- Ans
- 1. संयुक्त प्रांत
 - 2. बरार
 - 3. बंगाल
 - 4. कश्मीर

Question ID : 26433089884

Status : Answered

Chosen Option : 3

Q.2 विश्व का सबसे लंबा लिखित संविधान किस देश का है?

- Ans
- 1. संयुक्त राज्य अमेरिका
 - 2. नीदरलैंड
 - 3. दक्षिण अफ्रीका
 - 4. भारत

Question ID : 26433089176

Status : Answered

Chosen Option : 4

Q.3 जुलाई 2022 में भारत से शिवसेना के किस नेता को महाराष्ट्र से राज्य सभा का सदस्य चुना गया?

- Ans
- 1. संजय राउत
 - 2. विनायक राऊत
 - 3. उद्धव ठाकरे
 - 4. आदित्य ठाकरे

Question ID : 264330114949

Status : Answered

Chosen Option : 1

Q.4 अगस्त 2022 में, वैज्ञानिक और औद्योगिक अनुसंधान परिषद (CSIR) की पहली महिला महानिदेशक के रूप में किसे नियुक्त किया गया था?

- Ans
- 1. नल्लाथम्बी कलाइसेल्वी
 - 2. सावित्री जिंदल
 - 3. नवजीत कौर बराड़
 - 4. अपेक्षा फर्नांडीस

Question ID : 264330114990

Status : Answered

Chosen Option : 1

Q.5 बुद्ध पूर्णिमा, जो गौतम बुद्ध के भक्तों द्वारा मनाई जाती है, को निम्नलिखित में से किस राज्य में सागा दावा के नाम से जाना जाता है?

- Ans
- 1. सिक्किम
 - 2. आंध्र प्रदेश
 - 3. महाराष्ट्र
 - 4. असम

Question ID : 264330115125

Status : Answered

Chosen Option : 1

Q.6 निम्नलिखित में से कौन एक क्रिकेटर नहीं है?

- Ans 1. साइना नेहवाल
 2. जवागल श्रीनाथ
 3. राहुल द्रविड़
 4. सचिन तेंदुलकर

Question ID : 264330116260

Status : Answered

Chosen Option : 1

Q.7 रविकीर्ति ने निम्नलिखित में से किस चालुक्य शासक की प्रशस्ति की रचना की थी?

- Ans 1. पुलकेशिन II
 2. मंगलेश I
 3. विक्रमादित्य IV
 4. कीर्तिवर्मन II

Question ID : 26433085221

Status : Answered

Chosen Option : 1

Q.8 सत्रीया, निम्नलिखित में से किस राज्य का शास्त्रीय नृत्य है?

- Ans 1. तमिलनाडु
 2. महाराष्ट्र
 3. उत्तर प्रदेश
 4. असम

Question ID : 26433071659

Status : Answered

Chosen Option : 4

Q.9 बैडमिंटन एकल खेल में, यदि दोनों खिलाड़ियों के 29 अंक हैं, तो उनमें से एक किस अंक पर खेल जीतेगा?

- Ans 1. 32वां अंक
 2. मैच ड्रॉ हो जाएगा
 3. 31वां अंक
 4. 30वां अंक

Question ID : 264330115929

Status : Answered

Chosen Option : 4

Q.10 सरकार का हस्तक्षेप चाहे मांग का विस्तार करने के लिए हो या इसे कम करने के लिए, _____ कार्य कहलाता है।

- Ans 1. स्थिरीकरण
 2. कस्टमाइज़ेशन
 3. आरंभ
 4. निर्माण

Question ID : 264330115287
Status : Answered
Chosen Option : 2

Q.11 सोडियम सल्फेट और बेरियम क्लोराइड की अभिक्रिया में बनने वाला सफेद अवक्षेप क्या होता है?

- Ans 1. बेरियम सल्फेट
 2. बेरियम हाइड्रॉक्साइड
 3. सोडियम ऑक्साइड
 4. सोडियम क्लोराइड

Question ID : 26433091480
Status : Answered
Chosen Option : 1

Q.12 इसका उपयोग बोरा, चटाई, रस्सी, सूत, कालीन और अन्य कलाकृतियाँ बनाने में किया जाता है। यहाँ किस फसल की बात हो रही है?

- Ans 1. जूट
 2. केला
 3. ताड़
 4. नारियल

Question ID : 264330115534
Status : Answered
Chosen Option : 1

Q.13 निम्नलिखित में से किसे राजीव गांधी पुरस्कार, इंदिरा प्रियदर्शिनी सम्मान, रोटरी अंतर्राष्ट्रीय अवार्ड मिले हैं?

- Ans 1. एन राजम
 2. जिया मोहिउद्दीन डागर
 3. महबूब सुभानी
 4. शोभना नारायण

Question ID : 264330115846
Status : Answered
Chosen Option : 3

Q.14 लोकसभा का कार्यकाल, जब तक भंग न हो, उसकी पहली बैठक की नियत तारीख से _____ तक होता है।

- Ans
- 1. 6 वर्ष
 - 2. 5 वर्ष
 - 3. 4 वर्ष
 - 4. 3 वर्ष

Question ID : 26433089968
Status : Answered
Chosen Option : 1

Q.15 किस कारण से आयातित सामान अधिक महंगा होता है?

- Ans
- 1. प्रकृति में दुर्लभता
 - 2. प्रशुल्कों
 - 3. पसंदानुसार निर्मित माल
 - 4. उच्चतर गुणवत्ता

Question ID : 264330116141
Status : Answered
Chosen Option : 1

Q.16 निम्नलिखित में से कौन अर्थव्यवस्था के प्राथमिक क्षेत्र से संबंधित नहीं है?

- Ans
- 1. बैंक सेवाएँ
 - 2. डेयरी
 - 3. वानिकी
 - 4. मत्स्यन

Question ID : 26433082166
Status : Answered
Chosen Option : 1

Q.17 लू (Loo) किस ऋतु की विशेषता है?

- Ans
- 1. पतझड़
 - 2. शीत ऋतु
 - 3. वसन्त
 - 4. ग्रीष्म ऋतु

Question ID : 264330115989
Status : Answered
Chosen Option : 4

Q.18 स्टार्टअप इंडिया को _____ के अंतर्गत लॉन्च किया गया था।

- Ans
- 1. कौशल विकास और उद्यमशीलता मंत्रालय
 - 2. श्रम एवं रोजगार मंत्रालय
 - 3. सामाजिक न्याय एवं अधिकारिता मंत्रालय
 - 4. वाणिज्य एवं उद्योग मंत्रालय

Question ID : 264330116192

Status : Answered

Chosen Option : 1

Q.19 जनगणना 2011 के अनुसार भारत में साक्षरता दर कितनी थी?

- Ans
- 1. 88.23%
 - 2. 74.04%
 - 3. 69.90%
 - 4. 65.27%

Question ID : 264330116055

Status : Answered

Chosen Option : 2

Q.20 किशोरों को प्रतिदिन औसत मात्रा वाले कितने संतुलित आहार देने चाहिए?

- Ans
- 1. छह
 - 2. तीन
 - 3. एक
 - 4. दो

Question ID : 264330115229

Status : Answered

Chosen Option : 2

Section : Part-C-Elementary Mathematics

Q.1 एक ट्रेन सीधे रेलपथ पर 129 km/h की चाल से चल रही है और समानांतर सड़क पर एक छोटी कार 60 km/h की चाल से चल रही है। यदि ट्रेन 943 m लंबी है और वे एक ही दिशा में चल रही हैं, तो कार को पूरी तरह से पार करने में ट्रेन को कितना समय (सेकंड में, निकटतम पूर्णांक तक पूर्णांकित) लगेगा? ट्रेन की लंबाई की तुलना में कार की लंबाई पर ध्यान न दें।

- Ans
- 1. 49
 - 2. 29
 - 3. 59
 - 4. 39

Question ID : 26433075767

Status : Answered

Chosen Option : 1

Q.2 ₹50,000 की राशि पर 6% वार्षिक की दर से 2 वर्ष के अंत में अर्धवार्षिक रूप से चक्रवृद्धि होने वाला चक्रवृद्धि ब्याज ज्ञात कीजिए। (निकटतम पूर्णांक में लगभग।)

- Ans
- 1. ₹6,933
 - 2. ₹6,275
 - 3. ₹5,676
 - 4. ₹5,978

Question ID : 26433091560
Status : Answered
Chosen Option : 2

Q.3 यदि कोई व्यक्ति ₹12 में 15 पेंसिल खरीदता है, और ₹15 में 12 पेंसिल बेचता है, तो लाभ या हानि प्रतिशत ज्ञात कीजिए।

- Ans
- 1. 56.25% का लाभ
 - 2. 65.25% का लाभ
 - 3. 56.52% की हानि
 - 4. 56.25% की हानि

Question ID : 26433076174
Status : Answered
Chosen Option : 2

Q.4 यदि $3:5 = x:75$, तो x का मान क्या होगा?

- Ans
- 1. 50
 - 2. 42
 - 3. 45
 - 4. 30

Question ID : 26433075662
Status : Answered
Chosen Option : 3

Q.5 15 मजदूरों में Rs.12,600 बाँटे जाते हैं। इनमें 7 पुरुष, 3 महिलाएँ और 5 लड़के हैं। यदि प्रत्येक महिला प्रत्येक लड़के का तिगुना प्राप्त करती है, और प्रत्येक पुरुष प्रत्येक लड़के का सात गुना प्राप्त करता है, तो प्रत्येक महिला का हिस्सा कितना है?

- Ans
- 1. Rs.1,800
 - 2. Rs.1,200
 - 3. Rs.600
 - 4. Rs.900

Question ID : 26433091920
Status : Answered
Chosen Option : 3

Q.6 यदि किसी घन के सबसे लंबे विकर्ण की लंबाई $6\sqrt{3}$ cm है, तो उस घन का आयतन ज्ञात कीजिये।

- Ans
- 1. 261 cm^3
 - 2. 126 cm^3
 - 3. 216 cm^3
 - 4. 612 cm^3

Question ID : 26433073051

Status : Answered

Chosen Option : 3

Q.7 मेहुल 560000 रुपए में एक कार खरीदता है। वह इसे पुनर्निर्मित करता है और अंततः इसे 640000 रुपए में बेचता है। कार के मूल्य में प्रतिशत वृद्धि है:

- Ans
- 1. 50/3 प्रतिशत
 - 2. 80/9 प्रतिशत
 - 3. 100/7 प्रतिशत
 - 4. 60/7 प्रतिशत

Question ID : 264330116796

Status : Answered

Chosen Option : 3

Q.8 X भूतल पर स्थित लिफ्ट में चढ़ता है जो 30 मंजिल प्रति मिनट की गति से ऊपर जाती है जबकि Y उसी समय 50वीं मंजिल पर एक दूसरी लिफ्ट में चढ़ता है जो 45 मंजिल प्रति मिनट की गति से नीचे जाती है। किस मंजिल पर उनके मार्ग मिलेंगे? (लिफ्ट किसी भी मंजिल पर रुक नहीं रही है।)

- Ans
- 1. 18वां
 - 2. 25वां
 - 3. 24वां
 - 4. 20वां

Question ID : 264330116694

Status : Answered

Chosen Option : 1

Q.9 आरव और दुर्गा मिलकर एक काम को 33 दिनों में कर सकते हैं। उन्होंने 15 दिनों तक एक साथ काम किया और फिर आरव ने काम छोड़ दिया और शेष काम को दुर्गा ने अकेले 30 दिनों में पूरा किया। आरव अकेले कितने दिनों में कुल काम कर सकता है।

- Ans
- 1. 145/2 दिन
 - 2. 165/2 दिन
 - 3. 135/2 दिन
 - 4. 155/2 दिन

Question ID : 264330116876

Status : Answered

Chosen Option : 2

Q.10 5000 रुपए पर अंकित मूल्य के एक दर्जन पतलून के जोड़े पर 16 प्रतिशत की छूट है। 2100 रुपए में कितने जोड़ी पतलून खरीदे जा सकते हैं ?

- Ans
- 1. 7
 - 2. 6
 - 3. 4
 - 4. 5

Question ID : 264330116761

Status : Answered

Chosen Option : 2

Q.11 एक निश्चित धनराशि 3 तिमाहियों के बाद मिश्रधन Rs.13,310 हो जाएगी। यदि ब्याज की दर 40% वार्षिक है और ब्याज तिमाही रूप से चक्रवृद्धि किया जाता है, तो वर्तमान धनराशि (Rs. में) ज्ञात कीजिए।

- Ans
- 1. 10000
 - 2. 13000
 - 3. 11000
 - 4. 9000

Question ID : 26433071332

Status : Answered

Chosen Option : 1

Q.12 आकाश अपने घर से स्कूल तक की दूरी अपनी साइकिल से तीन बराबर भागों में क्रमशः 5 km/h, 10 km/h और 15 km/h की चाल से तय करता है। अपने घर से स्कूल तक जाने में आकाश की औसत चाल क्या है?

- Ans
- 1. $9\frac{1}{11}$ km/h
 - 2. 10 km/h
 - 3. 11 km/h
 - 4. $8\frac{2}{11}$ km/h

Question ID : 26433080376

Status : Answered

Chosen Option : 1

Q.13 12 महिलाएँ और 16 पुरुष एक काम को 11 दिनों में कर सकते हैं। यदि प्रत्येक महिला उस कार्य को करने के लिए एक पुरुष द्वारा लिए गए समय का दोगुना समय लेती है, तो 16 पुरुष उसी कार्य को कितने दिनों में करेंगे?

- Ans
- ✓ 1. $\frac{121}{8}$ दिन
 - ✗ 2. $\frac{115}{8}$ दिन
 - ✗ 3. $\frac{117}{8}$ दिन
 - ✗ 4. $\frac{125}{8}$ दिन

Question ID : 26433075120

Status : Answered

Chosen Option : 1

Q.14 एक संख्या को 200 से घटाकर 150 कर दिया गया है। कमी प्रतिशत ज्ञात कीजिए।

- Ans
- ✗ 1. 51%
 - ✗ 2. 43%
 - ✓ 3. 25%
 - ✗ 4. 32%

Question ID : 26433080005

Status : Answered

Chosen Option : 3

Q.15 एक वस्तु का विक्रय मूल्य उसके क्रय मूल्य का $\frac{4}{3}$ गुना है। लाभ प्रतिशत ज्ञात कीजिए।

- Ans
- ✗ 1. $32\frac{1}{2}\%$
 - ✗ 2. $32\frac{1}{3}\%$
 - ✗ 3. $33\frac{2}{3}\%$
 - ✓ 4. $33\frac{1}{3}\%$

Question ID : 26433075146

Status : Answered

Chosen Option : 4

Q.16 दिए गए युग्मों में से कौन-सा युग्म असहभाज्य संख्या युग्म बनाता है?

- Ans
- 1. (36 , 15)
 - 2. (9 , 63)
 - 3. (21 , 42)
 - 4. (11 , 21)

Question ID : 26433082359

Status : Answered

Chosen Option : 4

Q.17 दो एथलीट A और B, एक ही आरंभिक बिंदु से 1800 m लंबाई के एक गोलाकार ट्रैक पर एक ही समय पर क्रमशः 9 m/s और 6 m/s की चाल से दौड़ना शुरू करते हैं। विपरीत दिशाओं में दौड़ते हुए वे कितने अलग-अलग बिंदुओं पर मिलेंगे?

- Ans
- 1. 5
 - 2. 1
 - 3. 15
 - 4. 3

Question ID : 26433063241

Status : Answered

Chosen Option : 2

Q.18 एक पंखे का अंकित मूल्य उसके क्रय मूल्य से 25% अधिक है। यदि अंकित मूल्य पर 12% की छूट दी जाती है, तो लाभ प्रतिशत ज्ञात करें।

- Ans
- 1. 10%
 - 2. 7%
 - 3. 8%
 - 4. 9%

Question ID : 26433075468

Status : Answered

Chosen Option : 1

Q.19 एक बेलन का व्यास 14 cm है और इसका वक्र पृष्ठीय क्षेत्रफल 220 cm^2 है। बेलन का आयतन _____ है।

- Ans
- 1. 670 cm^3
 - 2. 620 cm^3
 - 3. 707 cm^3
 - 4. 770 cm^3

Question ID : 26433075897

Status : Answered

Chosen Option : 4

Q.20 दो संख्याओं का गुणनफल 6750 है और उनका लघुतम समापवर्त्य 450 है। यदि संख्याओं के बीच का अंतर उनके महत्तम समापवर्तक के बराबर है, तो छोटी संख्या ज्ञात करें।

- Ans
- 1. 90
 - 2. 150
 - 3. 75
 - 4. 120

Question ID : 264330116666
Status : Answered
Chosen Option : 3

Section : Part-D-English

Q.1 Select the most appropriate option to fill in the blanks and make the sentence meaningful.

My _____ gives me fresh coffee every _____.

- Ans
- 1. maid; morning
 - 2. made; mourning
 - 3. maid; mourning
 - 4. made; morning

Question ID : 26433092103
Status : Answered
Chosen Option : 1

Q.2 Select the most appropriate ANTONYM of the given word.

Eager

- Ans
- 1. Great
 - 2. Indifferent
 - 3. Sharp
 - 4. Greedy

Question ID : 26433072274
Status : Answered
Chosen Option : 2

Q.3 Select the option that expresses the given sentence in past perfect tense.

- A. The participants practised a lot for play.
- B. The participants had practised a lot for play.
- C. The participants had been practising a lot for play.
- D. The participants were practising a lot for play.

- Ans
- 1. D
 - 2. A
 - 3. C
 - 4. B

Question ID : 26433073516
Status : Answered
Chosen Option : 4

Q.4 Select the most appropriate meaning of the given idiom.

An axe to grind

- Ans 1. Personal and selfish reason
 2. Extra effort for solving problems
 3. To act justly
 4. Handling sharp items

Question ID : 26433072435
Status : Answered
Chosen Option : 1

Q.5 Select the most appropriate meaning of the given idiom.

Get the picture

- Ans 1. To watch with own eyes
 2. To control something
 3. To buy something
 4. To understand what's happening

Question ID : 26433084897
Status : Answered
Chosen Option : 4

Q.6 Select the most appropriate synonym of the given word.

Exciting

- Ans 1. Vengeful
 2. Moral
 3. Electrifying
 4. Dreary

Question ID : 26433084889
Status : Answered
Chosen Option : 4

Q.7 Select the most appropriate option that can substitute the underlined segment in the given sentence. If there is no need to substitute it, select 'No substitution required'.

The fire fighters were able to put out the fire in the industrial unit.

- Ans 1. No substitution required
 2. putting out
 3. to put off
 4. putting off

Question ID : 26433089754
Status : Answered
Chosen Option : 3

Q.8 Select the INCORRECTLY spelt word.

- Ans 1. Blinc
 2. Spoil
 3. Lapse
 4. Argue

Question ID : 26433073496
Status : Answered
Chosen Option : 1

Q.9 Select the most appropriate option to fill in the blank.

Differences among the various groups do not _____ well for the future of the peace treaty.

- Ans 1. ogre
 2. auger
 3. augur
 4. oar

Question ID : 26433090392
Status : Answered
Chosen Option : 1

Q.10 Select the INCORRECTLY spelt word.

- Ans 1. Kindergarten
 2. Swindle
 3. Grammar
 4. Imaginery

Question ID : 26433073740
Status : Answered
Chosen Option : 4

Q.11 Select the most appropriate ANTONYM of the given word.
Invincible

- Ans 1. Powerful
 2. Secure
 3. Safe
 4. Vulnerable

Question ID : 26433086489
Status : Answered
Chosen Option : 4

Q.12 Select the most appropriate synonym of the given word.

Conquer

- Ans 1. Defeat
 2. Separate
 3. Surrender
 4. Attach

Question ID : 26433072182
Status : Answered
Chosen Option : 4

Q.13 Select the most appropriate ANTONYM of the given word.

Freedom

- Ans 1. Courage
 2. Starvation
 3. Scarcity
 4. Bondage

Question ID : 26433073798
Status : Answered
Chosen Option : 4

Q.14 Select the most appropriate option that can substitute the underlined segment in the given sentence.

I still enjoyed the week despite of the weather.

- Ans 1. despite with the weather
 2. despite for the weather
 3. despite to the weather
 4. despite the weather

Question ID : 26433088168
Status : Answered
Chosen Option : 4

Q.15 Select the most appropriate option that can substitute the underlined segment in the given sentence. If there is no need to substitute it, select 'No substitution'.
The District Collector, Mr Kaushalendra Kumar, are visiting the site for inspection.

- Ans 1. are visiting site
 2. is visiting the site
 3. is visiting cite
 4. No substitution

Question ID : 26433093079
Status : Answered
Chosen Option : 2

Comprehension:

In the following passage, some words have been deleted. Read the passage carefully and select the most appropriate option to fill in each blank.

Delhi National Zoological Park, which opened in 1959, is (1.) _____ next to the well-known Old Fort. One of the top zoos in the entire Asian continent, it stands out for its (2.) _____ to give the animals and the birds housed there a habitat that is as close to natural as possible. With a total area of 214 acres, it is perfect for picnics, (3.) _____ in the winter. The National Zoological Gardens in New Delhi are home to over 2,000 different animal and bird (4.) _____. These animals and birds, which originate from many areas such as Africa, America, Australia, etc., (5.) _____ a home at this zoo. The Mughal Kos Minar serves as the Delhi Zoo's entrance.

SubQuestion No : 16

Q.16 Select the most appropriate option to fill in blank number 1.

- Ans
- 1. waited
 - 2. queued
 - 3. vacated
 - 4. located

Question ID : 26433089809

Status : Answered

Chosen Option : 4

Comprehension:

In the following passage, some words have been deleted. Read the passage carefully and select the most appropriate option to fill in each blank.

Delhi National Zoological Park, which opened in 1959, is (1.) _____ next to the well-known Old Fort. One of the top zoos in the entire Asian continent, it stands out for its (2.) _____ to give the animals and the birds housed there a habitat that is as close to natural as possible. With a total area of 214 acres, it is perfect for picnics, (3.) _____ in the winter. The National Zoological Gardens in New Delhi are home to over 2,000 different animal and bird (4.) _____. These animals and birds, which originate from many areas such as Africa, America, Australia, etc., (5.) _____ a home at this zoo. The Mughal Kos Minar serves as the Delhi Zoo's entrance.

SubQuestion No : 17

Q.17 Select the most appropriate option to fill in blank number 2.

- Ans
- 1. efforts
 - 2. affects
 - 3. effects
 - 4. escalations

Question ID : 26433089810

Status : Answered

Chosen Option : 1

Comprehension:

In the following passage, some words have been deleted. Read the passage carefully and select the most appropriate option to fill in each blank.

Delhi National Zoological Park, which opened in 1959, is (1.) _____ next to the well-known Old Fort. One of the top zoos in the entire Asian continent, it stands out for its (2.) _____ to give the animals and the birds housed there a habitat that is as close to natural as possible. With a total area of 214 acres, it is perfect for picnics, (3.) _____ in the winter. The National Zoological Gardens in New Delhi are home to over 2,000 different animal and bird (4.) _____. These animals and birds, which originate from many areas such as Africa, America, Australia, etc., (5.) _____ a home at this zoo. The Mughal Kos Minar serves as the Delhi Zoo's entrance.

SubQuestion No : 18

Q.18 Select the most appropriate option to fill in blank number 3.

- Ans 1. especially
 2. exactly
 3. variably
 4. explicitly

Question ID : 26433089811

Status : Answered

Chosen Option : 1

Comprehension:

In the following passage, some words have been deleted. Read the passage carefully and select the most appropriate option to fill in each blank.

Delhi National Zoological Park, which opened in 1959, is (1.) _____ next to the well-known Old Fort. One of the top zoos in the entire Asian continent, it stands out for its (2.) _____ to give the animals and the birds housed there a habitat that is as close to natural as possible. With a total area of 214 acres, it is perfect for picnics, (3.) _____ in the winter. The National Zoological Gardens in New Delhi are home to over 2,000 different animal and bird (4.) _____. These animals and birds, which originate from many areas such as Africa, America, Australia, etc., (5.) _____ a home at this zoo. The Mughal Kos Minar serves as the Delhi Zoo's entrance.

SubQuestion No : 19

Q.19 Select the most appropriate option to fill in blank number 4.

- Ans 1. beings
 2. species
 3. varieties
 4. kingdoms

Question ID : 26433089812

Status : Answered

Chosen Option : 2

Comprehension:

In the following passage, some words have been deleted. Read the passage carefully and select the most appropriate option to fill in each blank.

Delhi National Zoological Park, which opened in 1959, is (1.) _____ next to the well-known Old Fort. One of the top zoos in the entire Asian continent, it stands out for its (2.) _____ to give the animals and the birds housed there a habitat that is as close to natural as possible. With a total area of 214 acres, it is perfect for picnics, (3.) _____ in the winter. The National Zoological Gardens in New Delhi are home to over 2,000 different animal and bird (4.) _____. These animals and birds, which originate from many areas such as Africa, America, Australia, etc., (5.) _____ a home at this zoo. The Mughal Kos Minar serves as the Delhi Zoo's entrance.

SubQuestion No : 20

Q.20 Select the most appropriate option to fill in blank number 5.

- Ans
- 1. finds
 - 2. find
 - 3. finding
 - 4. found

Question ID : 26433089813

Status : Answered

Chosen Option : 2

Section : Part-D-Hindi

Q.1 निम्नलिखित विकल्पों में से किस एक वाक्य में संख्यावाचक विशेषण का उचित प्रयोग नहीं किया गया है?

- Ans
- 1. छत पर चार सफ़ेद कबूतर हैं।
 - 2. भव्या का स्वभाव अच्छा है।
 - 3. कक्षा में चार छात्र पढ़ते हैं।
 - 4. कुछ खिलाड़ी बहुत अच्छा खेले।

Question ID : 26433091237

Status : Not Answered

Chosen Option : --

Q.2 'भारत देश में इन्दौर स्वच्छता की सूची में प्रथम स्थान पर है।' वाक्य में अशुद्ध वर्तनी वाला शब्द है -

- Ans
- 1. स्वच्छता
 - 2. इन्दौर
 - 3. प्रथम
 - 4. भारत

Question ID : 26433069700

Status : Not Answered

Chosen Option : --

Q.3 निम्नलिखित मुहावरे का उचित अर्थ विकल्पों में से चुनिए।
नाक रगड़ना

- Ans
- 1. क्रोधित होना
 - 2. परेशान करना
 - 3. दीनता पूर्वक प्रार्थना करना
 - 4. तंग करना

Question ID : 26433069998
Status : Not Answered
Chosen Option : --

Q.4 'राजनीतिज्ञों एवं राजदूतों की नीति संबंधी कला' वाक्यांश के लिए इनमें से उपयुक्त शब्द कौन-सा है?

- Ans
- 1. राजनीति
 - 2. कूटनीति
 - 3. गृहनीति
 - 4. अर्थनीति

Question ID : 26433066887
Status : Not Answered
Chosen Option : --

Q.5 'साहित्यानुरागी _____।' उपर्युक्त वाक्य में रिक्त स्थान के लिए उपयुक्त विकल्प निम्न में से क्या होगा?

- Ans
- 1. से तात्पर्य है साहित्य प्रेमी
 - 2. से साहित्य प्रेमी तात्पर्य है
 - 3. का प्रेमी तात्पर्य साहित्य है
 - 4. का तात्पर्य प्रेमी साहित्य है

Question ID : 26433067036
Status : Not Answered
Chosen Option : --

Q.6 सभ्य व्यक्ति किसी का अपमान नहीं करते हैं। उपरोक्त वाक्य में रेखांकित शब्द के विलोम शब्द का चयन कीजिए।

- Ans
- 1. भद्र
 - 2. शील
 - 3. शालीन
 - 4. असभ्य

Question ID : 26433079644
Status : Not Answered
Chosen Option : --

Q.7 निम्नलिखित में से कौन सा संबोधन कारक चिह्न है?

- Ans
- 1. हो
 - 2. से
 - 3. अरे
 - 4. ने

Question ID : 26433085032

Status : Not Answered

Chosen Option : --

Q.8 युद्ध की इच्छा रखने वाला युवराज कहलाता है।
उपरोक्त वाक्य में रेखांकित पद के स्थान पर आने वाले सही शब्द का चयन विकल्पों में से कीजिए।

- Ans
- 1. राजनीतिज्ञ
 - 2. यायावर
 - 3. यशस्वी
 - 4. युयुत्सु

Question ID : 26433063060

Status : Not Answered

Chosen Option : --

Q.9 'अकस्मात्' शब्द के लिए इनमें से उपयुक्त पर्यायवाची शब्द कौन-सा है?

- Ans
- 1. अचानक
 - 2. अदृश्य
 - 3. अभंज
 - 4. अनिवार्य

Question ID : 26433066894

Status : Not Answered

Chosen Option : --

Q.10 रेखांकित शब्द-समूह के लिए सर्वाधिक उपयुक्त विकल्प चुनें।
जिसमें चेतना न हो, उसकी दशा को नहीं सुधारा जा सकता।

- Ans
- 1. मूर्ख
 - 2. अवचेतन
 - 3. अचेतन
 - 4. बेहोश

Question ID : 26433062282

Status : Not Answered

Chosen Option : --

Q.11 निम्नलिखित वाक्य के किस शब्द में वर्तनीगत अशुद्धि है?
भगवान शिव का निवास स्थान केलाश है।

- Ans
- 1. निवास
 - 2. केलाश
 - 3. शिव
 - 4. भगवान

Question ID : 26433066822
Status : Not Answered
Chosen Option : --

Q.12 निम्नलिखित मुहावरे के लिय उपयुक्त सार्थक शब्द है-
गूलर का फूल होना

- Ans
- 1. बहुत सुंदर होना
 - 2. क्रोध करना
 - 3. दुर्लभ होना
 - 4. बहुत ज्यादा परेशान होना

Question ID : 26433065778
Status : Not Answered
Chosen Option : --

Q.13 गर्मियों में गर्म हवा चलती है।
उपरोक्त वाक्य में रेखांकित शब्द के उचित पर्यायवाची शब्द का चयन कीजिए।

- Ans
- 1. सर
 - 2. वासव
 - 3. गजराज
 - 4. बयार

Question ID : 26433079621
Status : Not Answered
Chosen Option : --

Q.14 जिसके सभी दाँत झड़ चुके हों।

दिए गए वाक्यांश के लिए एक शब्द होगा-

- Ans
- 1. पोपला
 - 2. खल्वाट
 - 3. बूढ़ा
 - 4. खोखला

Question ID : 26433070059
Status : Not Answered
Chosen Option : --

Q.15 'राधा जब घर पहुँची तो दिवस खत्म हो चला था।' वाक्य में प्रयुक्त 'दिवस' का विलोम शब्द नहीं है-

- Ans
- 1. निशा
 - 2. रजनी
 - 3. अवनि
 - 4. रात्रि

Question ID : 26433069747

Status : Not Answered

Chosen Option : --

Comprehension:

निम्न गद्यावतरण में से कुछ शब्दों को हटा दिया गया है। गद्यावतरण के आधार पर पूछे गए प्रश्नों में इन रिक्त स्थानों के लिए उपयुक्त शब्दों का चयन विकल्पों में से कीजिए।

आवश्यकता इस बात की है कि हमारी शिक्षा का माध्यम 1. _____ भाषा हो, जिसमें राष्ट्र के हृदय-मन-प्राण के सूक्ष्मतम और गंभीरतम संवेदन मुखरित हों और हमारा पाठ्यक्रम यूरोप तथा अमेरिका के पाठ्यक्रम पर 2. _____ न होकर हमारी अपनी सांस्कृतिक परम्पराओं एवं आवश्यकताओं का प्रतिनिधित्व करे। भारतीय भाषाओं, भारतीय 3. _____ भारतीय दर्शन, भारतीय धर्म और भारतीय समाजशास्त्र को हम सर्वोपरि स्थान दें। उन्हें अपने शिक्षाक्रम में गौण स्थान देकर या शिक्षित जन को उनसे वंचित रखकर हमने राष्ट्रीय संस्कृति में एक महान रिक्ति को जन्म दिया है, जो नई 4. _____ को भीतर से खोखला कर रहा है। हम राष्ट्रीय 5. _____ से ही नहीं, सामयिक जीवन प्रवाह से भी दूर जा पड़े हैं।

SubQuestion No : 16

Q.16 रिक्त स्थान 1 के लिए सर्वाधिक उपयुक्त शब्द इनमें से क्या होगा?

- Ans
- 1. विदेशी
 - 2. अंग्रेजी
 - 3. भारतीय
 - 4. अरबी

Question ID : 26433072594

Status : Not Answered

Chosen Option : --

Comprehension:

निम्न गद्यावतरण में से कुछ शब्दों को हटा दिया गया है। गद्यावतरण के आधार पर पूछे गए प्रश्नों में इन रिक्त स्थानों के लिए उपयुक्त शब्दों का चयन विकल्पों में से कीजिए।

आवश्यकता इस बात की है कि हमारी शिक्षा का माध्यम 1. _____ भाषा हो, जिसमें राष्ट्र के हृदय-मन-प्राण के सूक्ष्मतम और गंभीरतम संवेदन मुखरित हों और हमारा पाठ्यक्रम यूरोप तथा अमेरिका के पाठ्यक्रम पर 2. _____ न होकर हमारी अपनी सांस्कृतिक परम्पराओं एवं आवश्यकताओं का प्रतिनिधित्व करे। भारतीय भाषाओं, भारतीय 3. _____ भारतीय दर्शन, भारतीय धर्म और भारतीय समाजशास्त्र को हम सर्वोपरि स्थान दें। उन्हें अपने शिक्षाक्रम में गौण स्थान देकर या शिक्षित जन को उनसे वंचित रखकर हमने राष्ट्रीय संस्कृति में एक महान रिक्ति को जन्म दिया है, जो नई 4. _____ को भीतर से खोखला कर रहा है। हम राष्ट्रीय 5. _____ से ही नहीं, सामयिक जीवन प्रवाह से भी दूर जा पड़े हैं।

SubQuestion No : 17

Q.17 रिक्त स्थान 2 के लिए सर्वाधिक उपयुक्त शब्द इनमें से क्या होगा?

- Ans
- 1. नकल
 - 2. निर्धारित
 - 3. जैसा
 - 4. आधारित

Question ID : 26433072595

Status : Not Answered

Chosen Option : --

Comprehension:

निम्न गद्यावतरण में से कुछ शब्दों को हटा दिया गया है। गद्यावतरण के आधार पर पूछे गए प्रश्नों में इन रिक्त स्थानों के लिए उपयुक्त शब्दों का चयन विकल्पों में से कीजिए।

आवश्यकता इस बात की है कि हमारी शिक्षा का माध्यम 1. _____ भाषा हो, जिसमें राष्ट्र के हृदय-मन-प्राण के सूक्ष्मतम और गंभीरतम संवेदन मुखरित हों और हमारा पाठ्यक्रम यूरोप तथा अमेरिका के पाठ्यक्रम पर 2. _____ न होकर हमारी अपनी सांस्कृतिक परम्पराओं एवं आवश्यकताओं का प्रतिनिधित्व करे। भारतीय भाषाओं, भारतीय 3. _____ भारतीय दर्शन, भारतीय धर्म और भारतीय समाजशास्त्र को हम सर्वोपरि स्थान दें। उन्हें अपने शिक्षाक्रम में गौण स्थान देकर या शिक्षित जन को उनसे वंचित रखकर हमने राष्ट्रीय संस्कृति में एक महान रिक्ति को जन्म दिया है, जो नई 4. _____ को भीतर से खोखला कर रहा है। हम राष्ट्रीय 5. _____ से ही नहीं, सामयिक जीवन प्रवाह से भी दूर जा पड़े हैं।

SubQuestion No : 18

Q.18 रिक्त स्थान 3 के लिए सर्वाधिक उपयुक्त शब्द इनमें से क्या होगा?

- Ans 1. इतिहास
 2. हिन्दी
 3. उर्दू
 4. अंग्रेजी

Question ID : 26433072596

Status : Not Answered

Chosen Option : --

Comprehension:

निम्न गद्यावतरण में से कुछ शब्दों को हटा दिया गया है। गद्यावतरण के आधार पर पूछे गए प्रश्नों में इन रिक्त स्थानों के लिए उपयुक्त शब्दों का चयन विकल्पों में से कीजिए।

आवश्यकता इस बात की है कि हमारी शिक्षा का माध्यम 1. _____ भाषा हो, जिसमें राष्ट्र के हृदय-मन-प्राण के सूक्ष्मतम और गंभीरतम संवेदन मुखरित हों और हमारा पाठ्यक्रम यूरोप तथा अमेरिका के पाठ्यक्रम पर 2. _____ न होकर हमारी अपनी सांस्कृतिक परम्पराओं एवं आवश्यकताओं का प्रतिनिधित्व करे। भारतीय भाषाओं, भारतीय 3. _____ भारतीय दर्शन, भारतीय धर्म और भारतीय समाजशास्त्र को हम सर्वोपरि स्थान दें। उन्हें अपने शिक्षाक्रम में गौण स्थान देकर या शिक्षित जन को उनसे वंचित रखकर हमने राष्ट्रीय संस्कृति में एक महान रिक्ति को जन्म दिया है, जो नई 4. _____ को भीतर से खोखला कर रहा है। हम राष्ट्रीय 5. _____ से ही नहीं, सामयिक जीवन प्रवाह से भी दूर जा पड़े हैं।

SubQuestion No : 19

Q.19 रिक्त स्थान 4 के लिए सर्वाधिक उपयुक्त शब्द इनमें से क्या होगा?

- Ans 1. पीढ़ी
 2. युवा
 3. सेना
 4. आदमी

Question ID : 26433072597

Status : Not Answered

Chosen Option : --

Comprehension:

निम्न गद्यावतरण में से कुछ शब्दों को हटा दिया गया है। गद्यावतरण के आधार पर पूछे गए प्रश्नों में इन रिक्त स्थानों के लिए उपयुक्त शब्दों का चयन विकल्पों में से कीजिए।

आवश्यकता इस बात की है कि हमारी शिक्षा का माध्यम 1. _____ भाषा हो, जिसमें राष्ट्र के हृदय-मन-प्राण के सूक्ष्मतम और गंभीरतम संवेदन मुखरित हों और हमारा पाठ्यक्रम यूरोप तथा अमेरिका के पाठ्यक्रम पर 2. _____ न होकर हमारी अपनी सांस्कृतिक परम्पराओं एवं आवश्यकताओं का प्रतिनिधित्व करे। भारतीय भाषाओं, भारतीय 3. _____ भारतीय दर्शन, भारतीय धर्म और भारतीय समाजशास्त्र को हम सर्वोपरि स्थान दें। उन्हें अपने शिक्षाक्रम में गौण स्थान देकर या शिक्षित जन को उनसे वंचित रखकर हमने राष्ट्रीय संस्कृति में एक महान रिक्ति को जन्म दिया है, जो नई 4. _____ को भीतर से खोखला कर रहा है। हम राष्ट्रीय 5. _____ से ही नहीं, सामयिक जीवन प्रवाह से भी दूर जा पड़े हैं।

SubQuestion No : 20

Q.20 रिक्त स्थान 5 के लिए सर्वाधिक उपयुक्त शब्द इनमें से क्या होगा?

- Ans 1. परम्परा
 2. रूढ़ि
 3. नियम
 4. रीति

Question ID : 26433072598

Status : Not Answered

Chosen Option : --

KD Job Update

Constable GD in CAPFs SSF Rifleman GD in Assam Rifles and Sepoy in NCB Examination 2022

Roll Number	KD Job Updates
Candidate Name	KD Job Updates
Venue Name	iON Digital Zone iDZ 2 Patliputra
Exam Date	12/01/2023
Exam Time	11:45 AM - 12:45 PM
Subject	Constable GD Examination 2022

Section : Part-A-General Intelligence and Reasoning

Q.1 किस विकल्प में निम्नलिखित शब्दों का वह क्रम दिया गया है, जिस क्रम में वे अंग्रेजी शब्दकोश में आते हैं?

- 1 Peanut
- 2 Peasant
- 3 Peacock
- 4 Peach
- 5 Pencil

Ans 1. 4,3,1,2,5

2. 4,3,5,1,2

3. 3,4,5,1,2

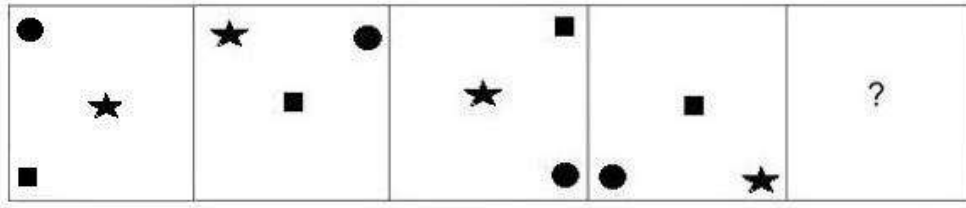
4. 3,4,1,2,5

Question ID : 26433069258

Status : Answered


Chosen Option : 1

Q.2 उस आकृति का चयन कीजिए जो नीचे दी गई श्रृंखला में प्रश्न चिह्न (?) के स्थान पर आएगी।




Ans

✗ 1.




✗ 2.



✗ 3.



✓ 4.



KD Job Updates

Question ID : 26433070420

Status : Answered

Chosen Option : 4

Q.3 निम्नलिखित में से कौन-सी संख्या दी गई श्रृंखला में प्रश्न-चिह्न (?) का स्थान लेगी?
5, 13, 29, ?, 125, 253

Ans ✗ 1. 58

✗ 2. 52

✗ 3. 75

✓ 4. 61

Question ID : 26433068095

Status : Answered

Chosen Option : 4

Q.4 एक निश्चित कूट भाषा में 'TRUTH' को UQVSI और 'FIRST' को GHSRU के रूप में कूटबद्ध किया जाता है। उसी भाषा में 'WHITE' को किस प्रकार कूटबद्ध किया जाएगा?

- Ans 1. XGJSF
 2. DSRGV
 3. XIJUF
 4. VGHSD

Question ID : 26433074514
Status : Answered
Chosen Option : 1

Q.5 उस विकल्प का चयन करें जो छठे पद से उसी प्रकार संबंधित है, जिस प्रकार पहला पद दूसरे पद से और तीसरा पद चौथे पद से संबंधित है।
169 : 182 :: 225 : 240 :: ? : 306

- Ans 1. 195
 2. 289
 3. 192
 4. 291

Question ID : 26433069093
Status : Answered
Chosen Option : 2

Q.6 'G + H' का अर्थ है 'G, H की पुत्री है'।
'G - H' का अर्थ है 'G, H का पति है'।
'G × H' का अर्थ है 'G, H का भाई है'।
यदि किसी परिवार में संबंधों को इस प्रकार दर्शाया जाता है: A + Q - R + K - Y, तो K, A से किस प्रकार संबंधित है?

- Ans 1. नाना
 2. पति
 3. भाई
 4. पिता

Question ID : 26433069176
Status : Answered
Chosen Option : 1

Q.7 उस विकल्प का चयन कीजिए, जो पाँचवें पद से उसी प्रकार संबंधित है, जिस प्रकार दूसरा पद पहले पद से और चौथा पद तीसरे पद से संबंधित है।
ARCS : ENHN :: GHAT : KDFO :: MUSK : ?

- Ans 1. PQYF
 2. PRYE
 3. QRXE
 4. QQXF

Question ID : 26433058009
Status : Answered
Chosen Option : 4

Q.8 छः लड़कियां - D, K, M, P, R और S एक वृत्ताकार मेज के परितः मेज के केंद्र की ओर मुख करके बैठी हैं। S, R के बाईं ओर तीसरे स्थान पर बैठी है। P, R के दाईं ओर ठीक बगल में, और D के बाईं ओर ठीक बगल में बैठी है। M, R के बाईं ओर ठीक बगल में बैठी है। K, S के दाईं ओर ठीक बगल में, और M के बाईं ओर ठीक बगल में बैठी है। D के बाईं ओर तीसरे स्थान पर कौन बैठी है?

- Ans
- 1. R
 - 2. P
 - 3. S
 - 4. M

Question ID : 26433080471

Status : Answered

Chosen Option : 4

Q.9 नीचे दिए गए समीकरण को गणितीय रूप से सही बनाने के लिए किन दो गणितीय चिह्नों को परस्पर बदलना चाहिए?

$$3 + 78 \div 13 - 9 \times 117 = 126$$

- Ans
- 1. + और ÷
 - 2. + और -
 - 3. + और ×
 - 4. ÷ और ×

Question ID : 264330114175

Status : Answered

Chosen Option : 3

Q.10 किसी निश्चित कूट भाषा में, 'distant face' को, 'human sad' के रूप में कूटबद्ध किया जाता है, 'face stairs' को, 'sad overpower' के रूप में कूटबद्ध किया जाता है, 'distant cup' को, 'human tea' के रूप में कूटबद्ध किया जाता है और 'stairs cup' को, 'overpower tea' के रूप में कूटबद्ध किया जाता है। 'face' शब्द का कूट क्या है?

- Ans
- 1. tea
 - 2. overpower
 - 3. human
 - 4. sad

Question ID : 26433069040

Status : Answered

Chosen Option : 4

Q.11 निम्नलिखित में से कौन-सा अक्षर नीचे दी गई अक्षर शृंखला में प्रश्न-चिह्न (?) के स्थान पर आकर शृंखला को पूर्ण करेगा?
T, R, P, N, L, J, ?

- Ans
- 1. G
 - 2. H
 - 3. I
 - 4. F

Question ID : 26433067277

Status : Answered

Chosen Option : 2

Q.12 नीचे दिए गए समीकरण को सही बनाने के लिए किन दो चिन्हों को गणितीय रूप से परस्पर बदलना चाहिए?

$$72 \times 3 + 32 \div 4 - 16 = 136$$

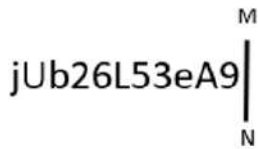
- Ans
- 1. + और -
 - 2. \times और +
 - 3. \times और \div
 - 4. \div और -

Question ID : 264330117504

Status : Answered

Chosen Option : 3

Q.13 दी गई आकृति के सही दर्पण प्रतिबिम्ब का चयन करें जब दर्पण को MN पर रखा जाए जैसा कि नीचे दर्शाया गया है।



- Ans
- 1. jUpz6L23EA9
 - 2. jUpz6L23E9a
 - 3. jUpz6L23e9a
 - 4. jUpz6L23eA9

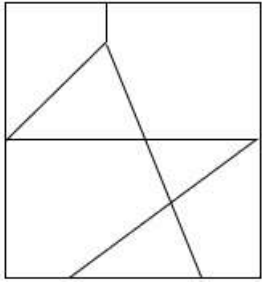
Question ID : 26433085544

Status : Answered

Chosen Option : 4

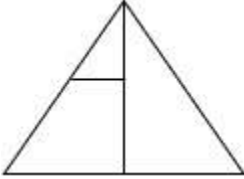
Q.14 वह विकल्प चित्र चुनिए, जो प्रस्तुत चित्र में अंतर्निहित है। (घुमाना अनुमन्य नहीं है)

है)

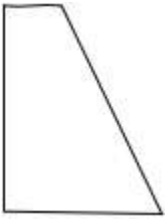


Ans

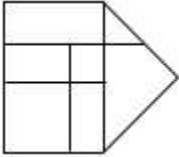
✗ 1.



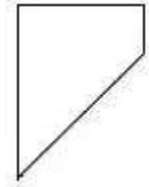
✗ 2.



✗ 3.



✓ 4.



KD Job Updates

Question ID : 26433069348

Status : Answered

Chosen Option : 4

Q.15 निम्न श्रंखला में प्रश्न-चिह्न (?) के स्थान पर कौन सी संख्या आएगी?
19, 21, ?, 134, 538, 2692

Ans ✗ 1. 84

✓ 2. 44

✗ 3. 38

✗ 4. 68

Question ID : 26433068970

Status : Answered

Chosen Option : 2

Q.16 दिए गए विकल्पों में से उस अक्षर-समूह का चयन कीजिए, जो निम्नलिखित श्रृंखला में प्रश्न-चिह्न (?) को प्रतिस्थापित कर सकता है।
?, HLEJ, JNGL, LPIN

- Ans
- 1. FGCF
 - 2. FJCH
 - 3. FJCD
 - 4. EDHI

Question ID : 26433068351

Status : Answered

Chosen Option : 2

Q.17 तीन कथनों के बाद तीन निष्कर्ष I, II और III दिए गए हैं। कथनों को सत्य मानते हुए, भले ही वे सामान्य रूप से ज्ञात तथ्यों से भिन्न प्रतीत होते हों, निर्धारित करें कि कौन-सा/से निष्कर्ष, कथनों का तार्किक रूप से अनुसरण करता है/करते हैं।

कथन:

सभी ग्लव्स बेट हैं।

सभी स्टंप बेट हैं।

सभी बेट बॉल हैं।

निष्कर्ष:

I. सभी स्टंप बॉल हैं।

II. कुछ बॉल ग्लव्स हैं।

III. कुछ ग्लव्स स्टंप हैं।

- Ans
- 1. केवल निष्कर्ष I और II अनुसरण करते हैं
 - 2. केवल निष्कर्ष I और III अनुसरण करते हैं
 - 3. केवल निष्कर्ष II और III अनुसरण करते हैं
 - 4. सभी निष्कर्ष अनुसरण करते हैं

Question ID : 26433082310

Status : Answered

Chosen Option : 1

Q.18 सात व्यक्ति A, B, C, D, E, F और G एक सीधी पंक्ति में उत्तर की ओर मुख करके बैठे हैं। A, D के बाईं ओर तीसरे स्थान पर बैठा है। D अंतिम दाएं सिरे पर बैठा है। A और F के बीच केवल दो व्यक्ति बैठे हैं। B, F के ठीक बगल में है। C और D के बीच केवल एक व्यक्ति बैठा है। G, A के ठीक बगल में नहीं है। F और C के बीच कितने व्यक्ति बैठे हैं?

- Ans
- 1. 4
 - 2. 2
 - 3. 3
 - 4. 5

Question ID : 26433056930

Status : Answered

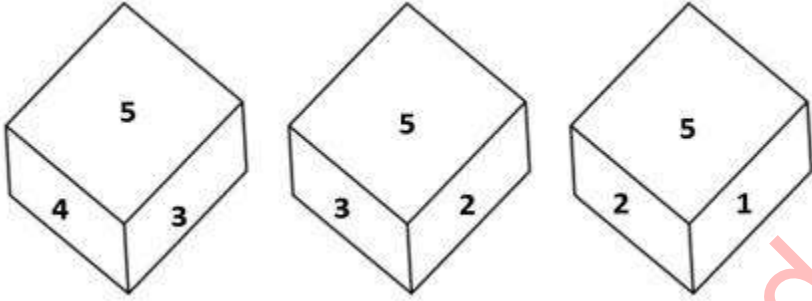
Chosen Option : 3

Q.19 उस विकल्प का चयन करें जो पांचवे अक्षर-समूह से उसी प्रकार संबंधित है जिस प्रकार दूसरा अक्षर-समूह पहले अक्षर-समूह से संबंधित है और चौथा अक्षर-समूह तीसरे अक्षर-समूह से संबंधित है।
RAIN : SZJM :: FALL : GZMK :: JUMP : ?

- Ans 1. KTNO
 2. KOTN
 3. OKTN
 4. KNT0

Question ID : 26433070326
Status : Answered
Chosen Option : 1

Q.20 एक ही पासे की तीन अलग-अलग स्थितियाँ यहाँ दर्शायी गई हैं। '4' दर्शाने वाले फलक के विपरीत वाले फलक पर आने वाली संख्या ज्ञात कीजिए।



- Ans 1. 3
 2. 1
 3. 6
 4. 2

Question ID : 26433082890
Status : Answered
Chosen Option : 4

Section : Part-B-General Knowledge and General awareness

Q.1 अंग्रेजों ने अवध पर कब कब्जा कर लिया था?

- Ans 1. 1856
 2. 1845
 3. 1838
 4. 1859

Question ID : 26433090581
Status : Not Answered
Chosen Option : --

Q.2 भारत में ग्यारहवीं पंचवर्षीय योजना की थीम क्या थी?

- Ans
- 1. तीव्र एवं अधिक समावेशी विकास की ओर
 - 2. जनसंख्या वृद्धि
 - 3. समान काम हेतु समान वेतन
 - 4. मुद्रास्फीति वृद्धि

Question ID : 264330115360

Status : Answered

Chosen Option : 1

Q.3 _____ are present only in plant cells.

- Ans
- 1. Nucleus
 - 2. Golgi apparatus
 - 3. Mitochondria
 - 4. Plastids

Question ID : 264330115239

Status : Answered

Chosen Option : 3

Q.4 जुलाई 2022 में, युवजन श्रमिक रायथू कांग्रेस पार्टी के आजीवन अध्यक्ष के रूप में किसे निर्वाचित किया गया है?

- Ans
- 1. जगन मोहन रेड्डी
 - 2. अविनाश पांडे
 - 3. जीतेन्द्र सिंह
 - 4. अजय माकन

Question ID : 264330114994

Status : Not Answered

Chosen Option : --

Q.5 Which of the following is NOT a part of revenue budget of the government?

- Ans
- 1. Plan Revenue Expenditure
 - 2. Non-tax Revenue
 - 3. Plan Capital Expenditure
 - 4. Tax Revenue

Question ID : 264330115291

Status : Answered

Chosen Option : 2

Q.6 व्यापार की गई वस्तुओं और सेवाओं के कुल मूल्य को व्यापार का/की _____ माना जाता है।

- Ans
- 1. दिशा
 - 2. संयोजन
 - 3. मात्रा
 - 4. प्रदर्शनी

Question ID : 26433054780
Status : Answered
Chosen Option : 2

Q.7 निशागंधी नृत्य उत्सव भारत के किस राज्य में मनाया जाता है?

- Ans
- 1. तमिलनाडु
 - 2. केरल
 - 3. तेलंगाना
 - 4. कर्नाटक

Question ID : 26433072922
Status : Not Answered
Chosen Option : --

Q.8 निम्न में से कौन सा तिलहन रबी फसल और खरीफ फसल दोनों के रूप में उगाया जाता है?

- Ans
- 1. अलसी के बीज
 - 2. अरंडी के बीज
 - 3. मूँगफली
 - 4. सरसों

Question ID : 264330115538
Status : Answered
Chosen Option : 3

Q.9 भारत के राष्ट्रीय खेल 2022 का 36वां संस्करण _____ राज्य में आयोजित किया गया था।

- Ans
- 1. पंजाब
 - 2. गुजरात
 - 3. मध्य प्रदेश
 - 4. महाराष्ट्र

Question ID : 264330115909
Status : Answered
Chosen Option : 1

Q.10 शास्त्रीय नर्तकी, अलरमेल वल्ली जिनहे _____ के लिए जाना जाता है,को पद्म भूषण से सम्मानित किया गया है।

- Ans
- 1. कुचिपुड़ी
 - 2. भरतनाट्यम
 - 3. कथकली
 - 4. मोहिनीअट्टम

Question ID : 264330115860
Status : Not Answered
Chosen Option : --

Q.11 ऋग्वेद _____ सूक्तों का संग्रह है।

- Ans
- 1. 1076
 - 2. 1028
 - 3. 1152
 - 4. 1124

Question ID : 264330115440
Status : Answered
Chosen Option : 2

Q.12 मेघालय की कौन सी पहाड़ियों में सर्वाधिक वर्षा होती है?

- Ans
- 1. नीलगिरि
 - 2. शिवालिक
 - 3. खासी पहाड़ियों
 - 4. अरावली

Question ID : 26433086755
Status : Answered
Chosen Option : 1

Q.13 Sphalerite is the ore of which of the following metals?

- Ans
- 1. Copper
 - 2. Tin
 - 3. Silver
 - 4. Zinc

Question ID : 264330115142
Status : Answered
Chosen Option : 1

Q.14 भारत के संविधान का अनुच्छेद 17 _____ से संबंधित है।

- Ans
- 1. शिक्षा का अधिकार
 - 2. अस्पृश्यता का अंत
 - 3. उपाधियों का अंत
 - 4. विधि के समक्ष समता

Question ID : 26433089905

Status : Answered

Chosen Option : 2

Q.15 निम्नलिखित में से किस मामले में, लोकसभा और राज्य-सभा को समान शक्तियां प्राप्त नहीं हैं?

- Ans
- 1. सर्वोच्च न्यायालय और उच्च न्यायालय के न्यायाधीशों पर महाभियोग चलाने
 - 2. राष्ट्रपति पर महाभियोग चलाने
 - 3. धन विधेयक पारित करने
 - 4. संवैधानिक संशोधन

Question ID : 26433054105

Status : Answered

Chosen Option : 3

Q.16 निम्नलिखित में से कौन मार्च 2022 में उत्तर प्रदेश के मुख्यमंत्री बने?

- Ans
- 1. अखिलेश यादव
 - 2. योगी आदित्यनाथ
 - 3. मुलायम सिंह यादव
 - 4. मायावती

Question ID : 264330114894

Status : Answered

Chosen Option : 2

Q.17 प्रसिद्ध भारतीय मुक्केबाज मैरी कॉम किस राज्य से हैं?

- Ans
- 1. मणिपुर
 - 2. मिजोरम
 - 3. तमिलनाडु
 - 4. नागालैंड

Question ID : 264330116274

Status : Answered

Chosen Option : 1

Q.18 निम्नलिखित में से किस उत्सव को "उत्सवों का उत्सव" भी कहा जाता है?

- Ans
- 1. चापचर कुट
 - 2. हॉर्नबिल महोत्सव
 - 3. मोत्सु
 - 4. वंगाला

Question ID : 264330115080

Status : Answered

Chosen Option : 1

Q.19 _____ was an Act passed to make a provision for levy and collection of tax on intra-State supply of goods or services.

- Ans
- 1. The Central Goods and Secured Tax Act
 - 2. The Cost of Goods and Services Tax Act
 - 3. The Central Gifts and Services Tax Act
 - 4. The Central Goods and Services Tax Act

Question ID : 264330116206

Status : Answered

Chosen Option : 4

Q.20 कौन-सा देश त्रिपुरा को पश्चिम, उत्तर और दक्षिण दिशाओं से घेरता है?

- Ans
- 1. बांग्लादेश
 - 2. म्यांमार
 - 3. भूटान
 - 4. वियतनाम

Question ID : 264330116098

Status : Not Answered

Chosen Option : --

Section : Part-C-Elementary Mathematics

Q.1 एक व्यक्ति 11 h में धारा की दिशा में 88 km तक और 12 h में धारा की विपरीत दिशा में 72 km तक नाव चला सकता है। धारा की चाल क्या है?

- Ans
- 1. 3 km/h
 - 2. 2 km/h
 - 3. 1 km/h
 - 4. 1.5 km/h

Question ID : 26433079889

Status : Answered

Chosen Option : 3

Q.2 60 लीटर के मिश्रण में दूध और पानी का अनुपात 2 : 3 है। दूध और पानी का अनुपात 1 : 2 बनाने के लिए कितनी मात्रा में पानी को मिलाया जाना चाहिए?

- Ans
- 1. 56 लीटर
 - 2. 60 लीटर
 - 3. 76 लीटर
 - 4. 12 लीटर

Question ID : 26433075497

Status : Answered

Chosen Option : 2

Q.3 संख्या 36, 48 और 90 का चतुर्थानुपाती ज्ञात कीजिए।

- Ans
- 1. 64
 - 2. 120
 - 3. 40
 - 4. 67.5

Question ID : 26433076188

Status : Answered

Chosen Option : 2

Q.4 दो उम्मीदवारों के बीच एक चुनाव में, डाले गए मतों के 64% मत प्राप्त करने वाला व्यक्ति 4,340 मतों के बहुमत से निर्वाचित होता है। डाले गए मतों की कुल संख्या कितनी है? (यह मानते हुए कि सभी डाले गए वोट वैध हैं)

- Ans
- 1. 15000
 - 2. 16500
 - 3. 16000
 - 4. 15500

Question ID : 26433075464

Status : Answered

Chosen Option : 4

Q.5

$\frac{4}{5}, \frac{8}{15}, \frac{2}{35}$ का महत्तम समापवर्तक (HCF) क्या है?

Ans

1. $\frac{2}{75}$

2. $\frac{2}{105}$

3. $\frac{4}{105}$

4. $\frac{2}{525}$

Question ID : 26433075540

Status : Answered

Chosen Option : 2

Q.6 एक वस्तु का अंकित मूल्य, क्रय मूल्य से 25% अधिक है। 10% लाभ अर्जित करने के लिए विक्रय मूल्य पर कितनी छूट होनी चाहिए?

Ans

1. 10.5%

2. 12.5%

3. 15%

4. 12%

Question ID : 26433082853

Status : Answered

Chosen Option : 4

Q.7 A five-digit number 32054 is divisible by 11. If the digits are rearranged in increasing order, then the new number which is formed will be divisible by:

Ans

1. 2

2. 3

3. 11

4. 5

Question ID : 26433075518

Status : Answered

Chosen Option : 4

Q.8 आयत की लंबाई उसकी चौड़ाई की तीन गुनी है। यदि इसकी लंबाई में 7 cm की कमी की जाती है और चौड़ाई में 7 cm की वृद्धि की जाती है, तो इसका क्षेत्रफल 21 cm² बढ़ जाता है। पहले आयत की लंबाई ज्ञात करें।

Ans 1. 15 cm

2. 21 cm

3. 18 cm

4. 12 cm

Question ID : 26433075477

Status : Answered

Chosen Option : 1

Q.9 धनराशि Rs.P उधार ली गई और दो समान वार्षिक किश्तों में वापस भुगतान की गई जिनमें से प्रत्येक की धनराशि Rs.35,280 है। यदि ब्याज की दर 5% वार्षिक है तथा ब्याज का संयोजन वार्षिक रूप से किया गया है, तो P का मान _____ है।

Ans 1. Rs.65,400

2. Rs.64,800

3. Rs.65,600

4. Rs.64,400

Question ID : 26433066412

Status : Answered

Chosen Option : 3

Q.10 कपिल और प्रकाश मिलकर एक कार्य को 45 दिनों में कर सकते हैं। प्रकाश और पीहू मिलकर इसे 60 दिनों में कर सकते हैं। कपिल और पीहू मिलकर इसे 60 दिनों में कर सकते हैं। कपिल, प्रकाश और पीहू मिलकर इसे कितने दिनों में पूरा करेंगे?

Ans 1. 38 दिन

2. 42 दिन

3. 36 दिन

4. 34 दिन

Question ID : 264330116890

Status : Answered

Chosen Option : 3

Q.11 पहली छः सम संख्याओं का औसत ज्ञात करें।

Ans 1. 10

2. 5

3. 6

4. 7

Question ID : 26433075054

Status : Answered

Chosen Option : 4

Q.12 30 आदमी 10 घंटे में 50 पेड़ काटते हैं। यदि 10 आदमी यह काम छोड़ कर चले जाते हैं, तो 15 घंटे में कितने पेड़ काटे जाएंगे?

- Ans
- 1. 45
 - 2. 60
 - 3. 50
 - 4. 55

Question ID : 26433065100

Status : Answered

Chosen Option : 3

Q.13 एक बेलनाकार टैंक की क्षमता 5632 m^3 है। यदि इसके आधार का व्यास $s \text{ m}$ है, तो बेलनाकार टैंक की गहराई क्या है? ($\pi = \frac{22}{7}$ का प्रयोग करें)

- Ans
- 1. 116 m
 - 2. 112 m
 - 3. 114 m
 - 4. 118 m

Question ID : 26433079778

Status : Answered

Chosen Option : 2

Q.14 एक स्टोर में, Rs.28,500 की एमआरपी वाली वस्तु छूट के बाद Rs.27,645 की कीमत पर उपलब्ध है। उस वस्तु पर दी गई छूट का प्रतिशत कितना है?

- Ans
- 1. 4%
 - 2. 3%
 - 3. 1%
 - 4. 2%

Question ID : 26433082971

Status : Answered

Chosen Option : 2

Q.15 सुमन 40 kg गेहूं Rs.12.50/ kg और 30 kg गेहूं Rs.14/ kg की दर से खरीदती है। कुल मिलाकर 5% का लाभ प्राप्त करने के लिए उसे मिश्रण को प्रति kg किस दर से बेचना चाहिए?

- Ans
- 1. Rs.12.80
 - 2. Rs.13.80
 - 3. Rs.11.80
 - 4. Rs.14.80

Question ID : 26433066361

Status : Answered

Chosen Option : 2

Q.16 मुनाफ और सूर्या एक वृत्ताकार पथ पर एक ही बिंदु से एक साथ दौड़ना शुरू करते हैं, और वे उस पथ पर समान दिशा में दौड़ते हैं। उस वृत्ताकार पथ के जिस बिंदु पर वे 31वीं बार मिलते हैं, उसी बिंदु पर वे 43वीं बार मिलते हैं। यदि तेज़ दौड़ने वाले लड़के की चाल और धीमे दौड़ने वाले लड़के की चाल का अनुपात $n : 1$ है, जहाँ 'n' एक प्राकृत संख्या है, तो निम्नलिखित में से कौन-सा 'n' का संभावित मान नहीं है?

Ans 1. 3

2. 6

3. 5

4. 4

Question ID : 26433073134

Status : Answered

Chosen Option : 2

Q.17 यदि एक निश्चित धनराशि पर 2 वर्षों के लिए 10% वार्षिक की दर से, वार्षिक चक्रवृद्धि आधार पर गणना किए गए चक्रवृद्धि ब्याज और साधारण ब्याज के बीच का अंतर ₹464 है, तो निवेश की गई धनराशि ज्ञात करें।

Ans 1. ₹44,006

2. ₹44,600

3. ₹46,400

4. ₹46,040

Question ID : 26433081590

Status : Answered

Chosen Option : 3

Q.18 3 महीने में बच्चे का भार 3.2 kg से बढ़कर 6 kg हो जाता है। बच्चे के भार में प्रतिशत वृद्धि है:

Ans 1. 82.5 प्रतिशत

2. 87.5 प्रतिशत

3. 70.5 प्रतिशत

4. 75.5 प्रतिशत

Question ID : 264330116810

Status : Answered

Chosen Option : 2

Q.19 शशि एक पुराना रेफ्रिजरेटर ₹12,000 में खरीदता है और इसकी मरम्मत पर ₹1,000 खर्च करता है। यदि वह रेफ्रिजरेटर को ₹15,000 में बेचता है, तो उसका लाभ प्रतिशत _____ है।

- Ans
- ✓ 1. $15\frac{5}{13}\%$
 - ✗ 2. $13\frac{5}{13}\%$
 - ✗ 3. $14\frac{5}{13}\%$
 - ✗ 4. $16\frac{5}{13}\%$

Question ID : 26433080105

Status : Answered

Chosen Option : 1

Q.20 9 संख्याओं का औसत 15 है। यदि पहली पांच संख्याओं का औसत 13 है और अंतिम पांच संख्याओं का औसत 17 है, तो पांचवीं संख्या क्या होगी?

- Ans
- ✗ 1. 18
 - ✗ 2. 16
 - ✗ 3. 20
 - ✓ 4. 15

Question ID : 26433075639

Status : Answered

Chosen Option : 4

Section : Part-D-English

Q.1 Select the INCORRECTLY spelt word.

- Ans
- ✓ 1. Seperate
 - ✗ 2. Suitable
 - ✗ 3. Nutrient
 - ✗ 4. Permanent

Question ID : 26433073500

Status : Answered

Chosen Option : 1

Q.2 Select the most appropriate ANTONYM to substitute the underlined word in the given sentence.

The goods being sold are of inferior quality.

- Ans 1. anterior
 2. superior
 3. ulterior
 4. exterior

Question ID : 26433074009
Status : Answered
Chosen Option : 2

Q.3 Select the most appropriate synonym of the word given in brackets to fill in the blank.

Dishonest people always _____ (deceive) others.

- Ans 1. defend
 2. assist
 3. gladden
 4. cheat

Question ID : 26433070468
Status : Answered
Chosen Option : 4

Q.4 Choose the sentence that is in simple past tense:

- A. I was giving some of the chocolates to my younger sister.
B. I had been giving some of the chocolates to my younger sister.
C. I had given some of the chocolates to my younger sister.
D. I gave some of the chocolates to my younger sister.

- Ans 1. B
 2. A
 3. C
 4. D

Question ID : 26433089017
Status : Answered
Chosen Option : 4

Q.5 Select the most appropriate ANTONYM for the underlined word in the following sentence.

He neglected his duties and was dismissed from his job.

- Ans 1. Ignored
 2. Succeeded
 3. Attended
 4. Scorned

Question ID : 26433093034
Status : Answered
Chosen Option : 3

Q.6 Select the INCORRECTLY spelt word.

- Ans 1. Pancake
 2. Modern
 3. Passage
 4. Pasion

Question ID : 26433085207
Status : Answered
Chosen Option : 4

Q.7 Select the most appropriate meaning of the idiom in bold in the given sentence.

Because the shop is closing down, most of the stock is going for a song.

- Ans 1. Receive punishment
 2. Incredibly inexpensive
 3. Incredibly expensive
 4. Something that is soothing to your ears

Question ID : 26433072451
Status : Answered
Chosen Option : 2

Q.8 Select the most appropriate option that can substitute the underlined segment in the given sentence.

I asked Rita that how far her school was.

- Ans 1. how far her school is
 2. then how far her school was
 3. that how her school is
 4. how far her school was

Question ID : 26433099095
Status : Answered
Chosen Option : 4

Q.9 Select the most appropriate synonym of the given word.

Omnipresent

- Ans 1. Powerful
 2. Unique
 3. Universal
 4. Contemporary

Question ID : 26433072349
Status : Answered
Chosen Option : 3

Q.10 Select the most appropriate option that can substitute the underlined segment in the given sentence.

The way someone talks and behaves introduces the characteristics of a person.

- Ans
- 1. effects the aura
 - 2. defines the personality
 - 3. postulates the personality
 - 4. symbolises the gestures

Question ID : 26433088502
Status : Answered
Chosen Option : 2

Q.11 Select the most appropriate option to fill in the blank.

My mother was _____ at my negligence and scolded me.

- Ans
- 1. pleased
 - 2. furious
 - 3. thrilled
 - 4. energetic

Question ID : 26433071882
Status : Answered
Chosen Option : 2

Q.12 Select the most appropriate meaning of the given idiom.

Light at the end of tunnel

- Ans
- 1. Something that signals the end of a difficult situation
 - 2. Preparing for examinations
 - 3. An opening at the end of a matter
 - 4. New light coming out from darkness

Question ID : 26433073477
Status : Answered
Chosen Option : 1

Q.13 Select the most appropriate synonym of the given word.

Awkward

- Ans
- 1. Unskillful
 - 2. Asleep
 - 3. Clever
 - 4. Dormant

Question ID : 26433072186
Status : Answered
Chosen Option : 1

Q.14 Select the most appropriate ANTONYM of the given word.

Benign

- Ans 1. Friendly
 2. Wicked
 3. Favourable
 4. Cheerful

Question ID : 26433073576
Status : Answered
Chosen Option : 2

Q.15 Select the most appropriate ANTONYM of the given word.

Retain

- Ans 1. Attain
 2. Forget
 3. Maintain
 4. Restore

Question ID : 26433074052
Status : Answered
Chosen Option : 2

Comprehension:

In the following passage, some words have been deleted. Read the passage carefully and select the most appropriate option to fill in each blank.

Notebook software is included (1)_____ the SMART Board Interactive Whiteboard device. This programme includes a (2)_____ of tools for differentiating education. Professors and students can write on the SMART Board screen using a digital pen or (3)_____ finger if they have a SMART Board. Notebook files may be saved in various formats, printed, emailed, or posted, providing students with a total (4)_____ to course materials. Essentially, having a SMART Board available may (5)_____ everything that can be done on a computer.

SubQuestion No : 16

Q.16 Select the most appropriate option to fill in blank no. 1.

- Ans 1. with
 2. upon
 3. to
 4. along

Question ID : 26433058721
Status : Answered
Chosen Option : 1

Comprehension:

In the following passage, some words have been deleted. Read the passage carefully and select the most appropriate option to fill in each blank.

Notebook software is included (1)_____ the SMART Board Interactive Whiteboard device. This programme includes a (2)_____ of tools for differentiating education. Professors and students can write on the SMART Board screen using a digital pen or (3)_____ finger if they have a SMART Board. Notebook files may be saved in various formats, printed, emailed, or posted, providing students with a total (4)_____ to course materials. Essentially, having a SMART Board available may (5)_____ everything that can be done on a computer.

SubQuestion No : 17

Q.17 Select the most appropriate option to fill in blank no. 2.

- Ans
- 1. limit
 - 2. design
 - 3. number
 - 4. total

Question ID : 26433058722

Status : Answered

Chosen Option : 3

Comprehension:

In the following passage, some words have been deleted. Read the passage carefully and select the most appropriate option to fill in each blank.

Notebook software is included (1)_____ the SMART Board Interactive Whiteboard device. This programme includes a (2)_____ of tools for differentiating education. Professors and students can write on the SMART Board screen using a digital pen or (3)_____ finger if they have a SMART Board. Notebook files may be saved in various formats, printed, emailed, or posted, providing students with a total (4)_____ to course materials. Essentially, having a SMART Board available may (5)_____ everything that can be done on a computer.

SubQuestion No : 18

Q.18 Select the most appropriate option to fill in blank no. 3.

- Ans
- 1. there
 - 2. their
 - 3. these
 - 4. those

Question ID : 26433058723

Status : Answered

Chosen Option : 2

Comprehension:

In the following passage, some words have been deleted. Read the passage carefully and select the most appropriate option to fill in each blank.

Notebook software is included (1)_____ the SMART Board Interactive Whiteboard device. This programme includes a (2)_____ of tools for differentiating education. Professors and students can write on the SMART Board screen using a digital pen or (3)_____ finger if they have a SMART Board. Notebook files may be saved in various formats, printed, emailed, or posted, providing students with a total (4)_____ to course materials. Essentially, having a SMART Board available may (5)_____ everything that can be done on a computer.

SubQuestion No : 19

Q.19 Select the most appropriate option to fill in blank no. 4.

- Ans
- 1. exception
 - 2. download
 - 3. validity
 - 4. access

Question ID : 26433058724

Status : Answered

Chosen Option : 4

Comprehension:

In the following passage, some words have been deleted. Read the passage carefully and select the most appropriate option to fill in each blank.

Notebook software is included (1)_____ the SMART Board Interactive Whiteboard device. This programme includes a (2)_____ of tools for differentiating education. Professors and students can write on the SMART Board screen using a digital pen or (3)_____ finger if they have a SMART Board. Notebook files may be saved in various formats, printed, emailed, or posted, providing students with a total (4)_____ to course materials. Essentially, having a SMART Board available may (5)_____ everything that can be done on a computer.

SubQuestion No : 20

Q.20 Select the most appropriate option to fill in blank no. 5.

- Ans
- 1. enlighten
 - 2. enhance
 - 3. create
 - 4. form

Question ID : 26433058725

Status : Answered

Chosen Option : 3

Section : Part-D-Hindi

Q.1 वर्तनी की दृष्टि से शुद्ध वाक्य का चयन कीजिए-

- Ans
- 1. काम पूरा कर डालो, नहीं तो जूर्माना होगा।
 - 2. इस समय सरदी है, इस्लिए कोट पहन लो।
 - 3. दोश तुम्हारा है, और इसका मुझे विश्वास है।
 - 4. वक्त निकल जाता है, पर बात याद रह जाती है।

Question ID : 26433062894

Status : Not Answered

Chosen Option : --

Q.2 तुम्हारे चले जाने से मुझे बहुत दुख हुआ।

रेखांकित शब्द के उचित पर्यायवाची शब्द का चयन कीजिए।

- Ans
- 1. व्यथा
 - 2. तापस
 - 3. ईप्सा
 - 4. बेशर

Question ID : 26433079625

Status : Not Answered

Chosen Option : --

Q.3 वह उसका चश्मा भूल गया।

उपरोक्त वाक्य में रेखांकित शब्द के स्थान पर उचित शब्द क्या होगा?

- Ans
- 1. किसका
 - 2. क्या
 - 3. कुछ
 - 4. अपना

Question ID : 26433062202

Status : Not Answered

Chosen Option : --

Q.4 दिए गए वाक्य में प्रयुक्त गलत विभक्ति चिह्न के स्थान पर सही विभक्ति चिह्न होगा—

छुट्टियों में सभी बच्चों का अपने मम्मी-पापा के साथ घूमने जाने का कार्यक्रम बना लिया था।

- Ans
- 1. ने
 - 2. पर
 - 3. से
 - 4. द्वारा

Question ID : 26433062865

Status : Not Answered

Chosen Option : --

Q.5 निम्नलिखित वाक्य के किस शब्द में वर्तनी सम्बन्धी अशुद्धि है?

तुफान से डरकर नौका पार नहीं होती।

- Ans
- 1. पार
 - 2. तुफान
 - 3. डरकर
 - 4. नौका

Question ID : 26433066826

Status : Not Answered

Chosen Option : --

Q.6 'घर में गंगा बहाना' मुहावरे का सही अर्थ है -

- Ans
- 1. निश्चल व्यक्ति होना
 - 2. घर में सभी सुविधाएँ होना
 - 3. धार्मिक प्रवृत्ति का होना
 - 4. रोज गंगा स्नान करना

Question ID : 26433065926

Status : Not Answered

Chosen Option : --

Q.7 उन्होंने बोल उठे।

उपरोक्त वाक्य में त्रुटि पहचानकर वाक्य शुद्ध कीजिए।

- Ans
- 1. उन्होंने बोल उठें।
 - 2. वे ने बोल उठे।
 - 3. उसने बोल उठे।
 - 4. वे बोल उठे।

Question ID : 26433063043

Status : Not Answered

Chosen Option : --

Q.8 'रमेश को जब उत्तर नहीं मिला तो वह दूसरी तरफ चला गया।' वाक्य में प्रयुक्त 'उत्तर' शब्द निम्न में से किस अर्थ को व्यक्त करता है?

- Ans
- 1. अतीत
 - 2. पिछला
 - 3. उत्तर दिशा
 - 4. जवाब

Question ID : 26433069731

Status : Not Answered

Chosen Option : --

Q.9 'जो कम बोलता है' वाक्यांश के लिए एक शब्द क्या होगा?

- Ans
- 1. मितभाषी
 - 2. अपभाषी
 - 3. मृदुभाषी
 - 4. कटुभाषी

Question ID : 26433070100

Status : Not Answered

Chosen Option : --

Q.10 अपना गुस्सा काबू में करो, शांत रहो।
निम्न में से किस विकल्प में उपरोक्त वाक्य में प्रयुक्त 'शांत' शब्द का विलोम नहीं दिया गया है?

- Ans
- 1. स्थिर
 - 2. उत्तेजित
 - 3. उद्विग्न
 - 4. अशांत

Question ID : 26433080872
Status : Not Answered
Chosen Option : --

Q.11 'जानने की इच्छा करने वाला' वाक्यांश के लिए उचित शब्द क्या होगा?

- Ans
- 1. दूरदर्शी
 - 2. युयुत्सु
 - 3. जितेन्द्रिय
 - 4. जिज्ञासु

Question ID : 26433067063
Status : Not Answered
Chosen Option : --

Q.12 रेखांकित शब्द-समूह के लिए सर्वाधिक उपयुक्त विकल्प चुनें।
आज दोपहर के बाद मैं व्यस्त हूँ।

- Ans
- 1. पूर्वाह्न
 - 2. अपराह्न
 - 3. सुबह
 - 4. भोर

Question ID : 26433062286
Status : Not Answered
Chosen Option : --

Q.13 'ग्रामवास _____।' उपर्युक्त वाक्य में रिक्त स्थान के लिए उपयुक्त विकल्प निम्न में से क्या होगा?

- Ans
- 1. से अभिप्राय होता है ग्राम के लिए वास करना
 - 2. से अभिप्राय होता है ग्राम द्वारा वास करना
 - 3. से अभिप्राय होता है ग्राम से वास करना
 - 4. से अभिप्राय होता है ग्राम में वास करना

Question ID : 26433067040
Status : Not Answered
Chosen Option : --

Q.14 रोहन ने मंहगा सफारी सूट पहन रखा था और उसके साथ फटे हुए चमरौधे जूते पहन रखे थे, ये तो वही हुआ _____ ।
रिक्त स्थान की पूर्ति उचित मुहावरे द्वारा कीजिए।

- Ans
- ✓ 1. आधा तीतर आधा बटेर
 - ✗ 2. दिखने में अलग असल में अलग
 - ✗ 3. रंगा सियार
 - ✗ 4. आधा गंगा आधा जमुना

Question ID : 26433062602

Status : Not Answered

Chosen Option : --

Q.15 'राधा गौर वर्ण की सुंदर महिला थी।' वाक्य में प्रयुक्त 'वर्ण' शब्द निम्न में से किस अर्थ को व्यक्त करता है?

- Ans
- ✗ 1. लक्षण
 - ✗ 2. जाति
 - ✓ 3. रंग
 - ✗ 4. रूप

Question ID : 26433069727

Status : Not Answered

Chosen Option : --

Comprehension:

निम्नलिखित गद्यांश में कुछ शब्दों को हटा दिया गया है। दिए गए विकल्पों की सहायता से रिक्त स्थानों की पूर्ति कीजिए। प्रत्येक संख्या के लिए सबसे उपयुक्त विकल्प का चयन करें।
परमात्मा ने सभी नर-नारियों की आँखों में 1. _____ दिए हैं। इन्हीं आंसुओं के बल पर कोई साधारण मनुष्य 2. _____ बन जाता है और कोई राक्षस पिघलकर फिर से 3. _____ बन जाता है। जिस मनुष्य में जितनी अधिक 4. _____ होती है वह उतना ही कोमल, उदार और 5. _____ इंसान बन जाता है।

SubQuestion No : 16

Q.16 रिक्त स्थान 1 की पूर्ति के लिए सबसे उपयुक्त विकल्प का चयन करें।

- Ans
- ✗ 1. मुस्कान
 - ✗ 2. स्मिति
 - ✓ 3. आँसू
 - ✗ 4. हँसी

Question ID : 264330110861

Status : Not Answered

Chosen Option : --

Comprehension:

निम्नलिखित गद्यांश में कुछ शब्दों को हटा दिया गया है। दिए गए विकल्पों की सहायता से रिक्त स्थानों की पूर्ति कीजिए। प्रत्येक संख्या के लिए सबसे उपयुक्त विकल्प का चयन करें।
परमात्मा ने सभी नर-नारियों की आँखों में 1. _____ दिए हैं। इन्हीं आंसुओं के बल पर कोई साधारण मनुष्य 2. _____ बन जाता है और कोई राक्षस पिघलकर फिर से 3. _____ बन जाता है। जिस मनुष्य में जितनी अधिक 4. _____ होती है वह उतना ही कोमल, उदार और 5. _____ इंसान बन जाता है।

SubQuestion No : 17

Q.17 रिक्त स्थान 2 की पूर्ति के लिए सबसे उपयुक्त विकल्प का चयन करें।

- Ans 1. देवता
 2. निशाचर
 3. असुर
 4. दानव

Question ID : 264330110862

Status : Not Answered

Chosen Option : --

Comprehension:

निम्नलिखित गद्यांश में कुछ शब्दों को हटा दिया गया है। दिए गए विकल्पों की सहायता से रिक्त स्थानों की पूर्ति कीजिए। प्रत्येक संख्या के लिए सबसे उपयुक्त विकल्प का चयन करें।
परमात्मा ने सभी नर-नारियों की आँखों में 1. _____ दिए हैं। इन्हीं आंसुओं के बल पर कोई साधारण मनुष्य 2. _____ बन जाता है और कोई राक्षस पिघलकर फिर से 3. _____ बन जाता है। जिस मनुष्य में जितनी अधिक 4. _____ होती है वह उतना ही कोमल, उदार और 5. _____ इंसान बन जाता है।

SubQuestion No : 18

Q.18 रिक्त स्थान 3 की पूर्ति के लिए सबसे उपयुक्त विकल्प का चयन करें।

- Ans 1. बुरा मानव
 2. सच्चा मानव
 3. अहंकारी मानव
 4. क्रोधी मानव

Question ID : 264330110863

Status : Not Answered

Chosen Option : --

Comprehension:

निम्नलिखित गद्यांश में कुछ शब्दों को हटा दिया गया है। दिए गए विकल्पों की सहायता से रिक्त स्थानों की पूर्ति कीजिए। प्रत्येक संख्या के लिए सबसे उपयुक्त विकल्प का चयन करें।
परमात्मा ने सभी नर-नारियों की आँखों में 1. _____ दिए हैं। इन्हीं आंसुओं के बल पर कोई साधारण मनुष्य 2. _____ बन जाता है और कोई राक्षस पिघलकर फिर से 3. _____ बन जाता है। जिस मनुष्य में जितनी अधिक 4. _____ होती है वह उतना ही कोमल, उदार और 5. _____ इंसान बन जाता है।

SubQuestion No : 19

Q.19 रिक्त स्थान 4 की पूर्ति के लिए सबसे उपयुक्त विकल्प का चयन करें।

- Ans 1. दया
 2. निर्दयता
 3. बेदर्दी
 4. क्रूरता

Question ID : 264330110864

Status : Not Answered

Chosen Option : --

Comprehension:

निम्नलिखित गद्यांश में कुछ शब्दों को हटा दिया गया है। दिए गए विकल्पों की सहायता से रिक्त स्थानों की पूर्ति कीजिए। प्रत्येक संख्या के लिए सबसे उपयुक्त विकल्प का चयन करें।

परमात्मा ने सभी नर-नारियों की आँखों में 1. _____ दिए हैं। इन्हीं आँसुओं के बल पर कोई साधारण मनुष्य 2. _____ बन जाता है और कोई राक्षस पिघलकर फिर से 3. _____ बन जाता है। जिस मनुष्य में जितनी अधिक 4. _____ होती है वह उतना ही कोमल, उदार और 5. _____ इंसान बन जाता है।

SubQuestion No : 20

Q.20 रिक्त स्थान 5 की पूर्ति के लिए सबसे उपयुक्त विकल्प का चयन करें।

Ans 1. पूजनीय

2. निंदनीय

3. बदनाम

4. घृण्य

Question ID : 264330110865

Status : Not Answered

Chosen Option : --

KD Job Updates

Constable GD in CAPFs SSF Rifleman GD in Assam Rifles and Sepoy in NCB Examination 2022

Roll Number	KD Job Updates
Candidate Name	KD Job Updates
Venue Name	iON Digital Zone iDZ Jamshedpur
Exam Date	12/01/2023
Exam Time	2:30 PM - 3:30 PM
Subject	Constable GD Examination 2022

Section : Part-A-General Intelligence and Reasoning

Q.1 एक निश्चित कूट भाषा में, 'PARENT' को '148' और 'WRANGLE' को '160' के रूप में लिखा जाता है। उसी कूट भाषा में 'GRANTED' को किस प्रकार से लिखा जाएगा?

- Ans
- 1. 134
 - 2. 69
 - 3. 67
 - 4. 138

Question ID : 26433069472
Status : Answered
Chosen Option : 4

Q.2 एक निश्चित कूट भाषा में, 'fruit hat string' को 'worm bee wheel' के रूप में कूटबद्ध किया जाता है, 'hat fruit' को 'bee worm' के रूप में कूटबद्ध किया जाता है और 'string hat' को 'wheel bee' के रूप में कूटबद्ध किया जाता है। 'fruit' के लिए कूट शब्द क्या होगा?

- Ans
- 1. wheel
 - 2. bee
 - 3. hat
 - 4. worm

Question ID : 26433079368
Status : Answered
Chosen Option : 4

Q.3 निम्न में से कौन सी संख्या दी गई श्रृंखला में प्रश्नचिह्न (?) के स्थान पर आएगी?
20, 24, 33, ?, 107, 228, 397

- Ans
- 1. 86
 - 2. 29
 - 3. 58
 - 4. 82

Question ID : 26433076753
Status : Answered
Chosen Option : 3

Q.4 छः मित्र (अमन, बिप्लब, चिरंतन, दिव्या, एलिजाबेथ और फिरोज) एक वृत्ताकार मेज के परितः मेज के केंद्र की ओर मुख करके बैठे हैं। अमन, बिप्लब के बाईं ओर तीसरे स्थान पर बैठा है। चिरंतन, अमन के ठीक बगल में है। एलिजाबेथ, दिव्या के दाईं ओर दूसरे स्थान पर बैठी है। चिरंतन, दिव्या के ठीक बगल में नहीं है। अमन और एलिजाबेथ के बीच में कौन बैठा/बैठी है?

- Ans
- 1. बिप्लब
 - 2. दिव्या
 - 3. चिरंतन
 - 4. फिरोज

Question ID : 26433092769

Status : Answered

Chosen Option : 3

Q.5 उस विकल्प का चयन करें, जो पाँचवीं संख्या से उसी प्रकार संबंधित है, जिस प्रकार दूसरी संख्या, पहली संख्या से संबंधित है और चौथी संख्या, तीसरी संख्या से संबंधित है।
18 : 4 :: 36 : 16 :: 27 : ?

- Ans
- 1. 7
 - 2. 8
 - 3. 9
 - 4. 10

Question ID : 26433069412

Status : Answered

Chosen Option : 3

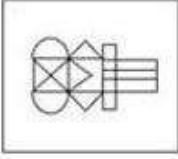
KD Job Updates

Q.6 निम्न विकल्पों में से उस उत्तर आकृति का चयन करें जिसमें नीचे दी गई प्रश्न आकृति निहित है (आकृति घुमाने की अनुमति नहीं है)।

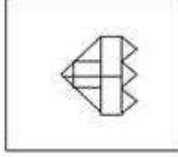


Ans

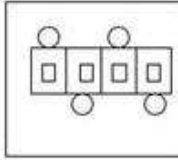
✓ 1.



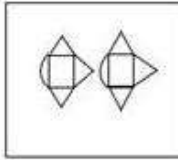
✗ 2.



✗ 3.



✗ 4.



Question ID : 26433070209

Status : Answered

Chosen Option : 1

Q.7 तीन कथनों के बाद 1, 2 और 3 से संख्यांकित तीन निष्कर्ष दिए गए हैं। कथनों को सत्य मानते हुए, भले ही वे सामान्यतः ज्ञात तथ्यों से भिन्न प्रतीत होते हों, निर्णय लें कि कौन-सा/से निष्कर्ष कथनों का तार्किक रूप से अनुसरण करता है/करते हैं।

कथन:

कुछ जूते चप्पल हैं।

कुछ चप्पल मोज़े हैं।

सभी मोज़े सैंडल हैं।

निष्कर्ष:

1. कुछ सैंडल जूते हैं।

2. कुछ सैंडल चप्पल हैं।

3. कुछ मोज़े जूते हैं।

Ans

✓ 1. केवल निष्कर्ष 2 अनुसरण करता है

✗ 2. केवल निष्कर्ष 3 अनुसरण करता है

✗ 3. केवल निष्कर्ष 1 और 2 अनुसरण करते हैं

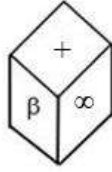
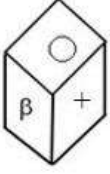
✗ 4. केवल निष्कर्ष 2 और 3 अनुसरण करते हैं

Question ID : 26433087132

Status : Answered

Chosen Option : 1

Q.8 एक ही पासे की दो अलग-अलग स्थितियों को दर्शाया गया है जिस पर +, @, O, ∞, € और β चिह्न बने हैं। 'O' दर्शाने वाले फलक के विपरीत फलक पर बना चिह्न ज्ञात कीजिए।



- Ans
- 1. @
 - 2. ∞
 - 3. +
 - 4. €

Question ID : 26433085527
Status : Answered
Chosen Option : 2

Q.9 नीचे दिए गए समीकरण को गणितीय रूप से सही बनाने के लिए किन दो चिह्नों को परस्पर बदलना चाहिए?

$$120 + 18 \times 40 - 10 \div 20 = 172$$

- Ans
- 1. + और -
 - 2. + और +
 - 3. - और +
 - 4. + और ×

Question ID : 264330117538
Status : Answered
Chosen Option : 1

Q.10 A, Z से विवाहित है। Z के 3 बच्चे L, M और N हैं। Z बच्चों का पिता नहीं है। P, A की माँ है। L, D का पति है। M की 2 बेटियाँ H और J हैं। Z, P से किस प्रकार संबंधित है?

- Ans
- 1. माँ
 - 2. बेटा
 - 3. बहू
 - 4. बेटी

Question ID : 26433074603
Status : Answered
Chosen Option : 3

Q.11 सात व्यक्ति D, E, F, G, H, I और J एक सीधी पंक्ति में उत्तर की ओर मुख करके बैठे हैं। D और H के बीच केवल तीन व्यक्ति बैठे हैं। E, J के बाईं ओर चौथे स्थान पर बैठा है। E और I के बीच में केवल D बैठा है। J, F के दाईं ओर तीसरे स्थान पर बैठा है। पंक्ति के दाएं सिरे से दूसरे स्थान पर कौन बैठा है?

- Ans
- 1. E
 - 2. I
 - 3. D
 - 4. H

Question ID : 26433068285
Status : Answered
Chosen Option : 4

Q.12 निम्नलिखित में से कौन-सी संख्या दी गई श्रृंखला में प्रश्न चिह्न (?) के स्थान पर आएगी?
6, 10, 19, 35, ?, 96

- Ans
- 1. 70
 - 2. 74
 - 3. 60
 - 4. 68

Question ID : 26433070220
Status : Answered
Chosen Option : 3

Q.13 उस विकल्प का चयन कीजिए जो तीसरे शब्द से उसी प्रकार संबंधित है जिस प्रकार दूसरा शब्द पहले शब्द से संबंधित है। (शब्दों को अर्थपूर्ण शब्दों के रूप में मानना है और उन्हें शब्द में अक्षरों/व्यंजनों/स्वरों की संख्या के आधार पर एक-दूसरे से संबंधित नहीं करना है।)
वायरोलॉजी : विषाणु :: कार्डियोलॉजी : ?

- Ans
- 1. खोपड़ी
 - 2. सिर
 - 3. हृदय
 - 4. फेफड़े

Question ID : 26433067365
Status : Answered
Chosen Option : 3

Q.14 उस विकल्प का चयन करें, जो पांचवे अक्षर-समूह से उसी प्रकार संबंधित है, जिस प्रकार दूसरा अक्षर-समूह पहले अक्षर-समूह से संबंधित है, और चौथा अक्षर-समूह तीसरे अक्षर-समूह से संबंधित है।
IFHO : LCEK :: HIJK : KFGG :: QL GK : ?

- Ans
- 1. ITHD
 - 2. ITDH
 - 3. TIDG
 - 4. TIHD

Question ID : 26433080465
Status : Answered
Chosen Option : 3

Q.15 किस विकल्प में निम्नलिखित शब्दों का वह क्रम दिया गया है, जिस क्रम में वे अंग्रेजी शब्दकोश में आते हैं?

- 1 culture
- 2 cult
- 3 cultivate
- 4 cupid
- 5 cumin

Ans 1. 2,3,1,5,4

2. 2,3,1,4,5

3. 3,2,1,4,5

4. 2,1,3,5,4

Question ID : 26433069286

Status : Answered

Chosen Option : 1

Q.16 यदि श्रृंखला जारी रखनी है तो कौन-सी आकृति प्रश्न चिह्न (?) के स्थान पर आएगी?

P	L	=	□	O	=	L	S	
O	Z	□	P	S	△	△	P	S
=	△	O	L	L	□	△	=	?

Ans

1.

S	=
□	O
L	△

2.

△	L
□	↑
=	S

3.

△	L
□	O
=	S

4.

△	□
L	↑
O	S

Question ID : 26433076638

Status : Answered

Chosen Option : 3

Q.17 दी गई आकृति के सही दर्पण प्रतिबिम्ब का चयन करें जब दर्पण को MN पर रखा जाए जैसा कि नीचे दर्शाया गया है।

JudGEmenT
M
|
N

Ans

- ✗ 1. TnəMəGɛɹud
✗ 2. TnəɹmɛɹGɹud
✓ 3. Tnəɹmɛɹɹud
✗ 4. Tnɛɹmɛɹɹud

Question ID : 26433085556
Status : Answered
Chosen Option : 3

Q.18 निम्नलिखित में से कौन-सा अक्षर-समूह दी गई श्रृंखला में प्रश्न-चिह्न (?) के स्थान पर आएगा?
GMPJ, HLOK, IKNL, JJMM, ?

- Ans ✗ 1. LKLO
✓ 2. KILN
✗ 3. KKMN
✗ 4. LKLN

Question ID : 26433076442
Status : Answered
Chosen Option : 2

Q.19 कौन-सा अक्षर-समूह दी गई श्रृंखला में प्रश्नचिह्न (?) के स्थान पर आकर श्रृंखला को पूर्ण करेगा?
BDGF, ACFE, ?, YADC, XZCB

- Ans ✗ 1. YAFD
✓ 2. ZBED
✗ 3. YBED
✗ 4. ZAFE

Question ID : 26433067713
Status : Answered
Chosen Option : 2

Q.20 * चिह्नों को क्रमानुसार प्रतिस्थापित करने और दिए गए समीकरण को संतुलित करने के लिए गणितीय चिह्नों के सही संयोजन का चयन कीजिए।

$$(120 * 15) * 9 * \sqrt[4]{81} * 17 * 28 * 95$$

- Ans
- 1. $\times, =, -, +, +, -$
 - 2. $+, -, =, -, \times, -$
 - 3. $+, \times, +, \times, -, =$
 - 4. $+, -, =, -, +, \times$

Question ID : 26433081000
Status : Answered
Chosen Option : 3

Section : Part-B-General Knowledge and General awareness

Q.1 28 मार्च को लोकसभा में आपराधिक प्रक्रिया (पहचान) विधेयक, 2022 किसने पेश किया?

- Ans
- 1. कृष्ण पाल
 - 2. मीनाक्षी लेखी
 - 3. राव इंद्रजीत सिंह
 - 4. अजय कुमार मिश्रा

Question ID : 264330116218
Status : Answered
Chosen Option : 2

Q.2 अक्टूबर 2022 में, भारत सरकार द्वारा राजस्व सचिव के रूप में किसे नियुक्त किया गया?

- Ans
- 1. एसएस नकुल
 - 2. तरुण बजाज
 - 3. अजय भूषण पांडे
 - 4. संजय मल्होत्रा

Question ID : 264330115028
Status : Answered
Chosen Option : 4

Q.3 भारत की पहली पंचवर्षीय योजना _____ में शुरू की गई थी।

- Ans
- 1. 1961
 - 2. 1901
 - 3. 1951
 - 4. 1971

Question ID : 264330115383
Status : Answered
Chosen Option : 3

Q.4 महात्मा गांधी राष्ट्रीय ग्रामीण रोजगार गारंटी अधिनियम (MGNREGA) किस वर्ष में पारित किया गया था?

- Ans
- 1. 1993
 - 2. 1995
 - 3. 2005
 - 4. 2000

Question ID : 264330116072
Status : Answered
Chosen Option : 3

Q.5 राज्यपाल के बारे में निम्नलिखित में से कौन-सा कथन सही नहीं है?

- Ans
- 1. वह मुख्यमंत्री और अन्य मंत्रियों की नियुक्ति करता है।
 - 2. उसके पास किसी व्यक्ति के मृत्युदंड को क्षमा प्रदान करने, प्रविलंबन करने या माफ करने की शक्ति होती है।
 - 3. राज्य की कार्यपालिका शक्ति राज्यपाल में निहित है।
 - 4. वह कतिपय परिस्थितियों में अध्यादेश जारी कर सकता है।

Question ID : 26433054107
Status : Answered
Chosen Option : 3

Q.6 तिरुवातिरकली त्योहार मुख्यतः निम्न में से किस राज्य में मनाया जाता है?

- Ans
- 1. असम
 - 2. केरल
 - 3. पंजाब
 - 4. ओडिशा

Question ID : 264330109305
Status : Answered
Chosen Option : 2

Q.7 निम्नलिखित में से कौन सा त्यौहार अगस्त-सितंबर में फसल की कटाई के मौसम को मनाता है?

- Ans
- 1. बैसाखी
 - 2. लोहड़ी
 - 3. मकर संक्रांति
 - 4. ओणम

Question ID : 264330115872
Status : Answered
Chosen Option : 1

Q.8 _____ को प्रकृति की एक कार्यात्मक इकाई के रूप में देखा जा सकता है, जहां जीवित जीव आपस में और आसपास के भौतिक वातावरण के साथ भी अंतःक्रिया करते हैं।

- Ans
- 1. ब्रह्मांड
 - 2. पारिस्थितिकी तंत्र
 - 3. झुंड
 - 4. परिवार

Question ID : 264330115248
Status : Answered
Chosen Option : 2

Q.9 कांग्रेस और मुस्लिम लीग ने लखनऊ समझौता किस वर्ष में किया था?

- Ans
- 1. 1916
 - 2. 1914
 - 3. 1910
 - 4. 1912

Question ID : 264330115706
Status : Answered
Chosen Option : 1

Q.10 हरित क्रांति मुख्य रूप से _____ पर निर्भर है।

- Ans
- 1. हाई यील्ड वैरायटी प्रोग्राम
 - 2. प्राकृतिक वनस्पति
 - 3. वर्षा जल संचयन
 - 4. प्राकृतिक उर्वरकों के उपयोग

Question ID : 264330116152
Status : Answered
Chosen Option : 4

Q.11 किस भारतीय प्रधानमंत्री के कार्यकाल में भारतीय संविधान में मौलिक कर्तव्यों को शामिल किया गया?

- Ans
- 1. मनमोहन सिंह
 - 2. राजीव गांधी
 - 3. जवाहर लाल नेहरू
 - 4. इंदिरा गांधी

Question ID : 26433089951
Status : Answered
Chosen Option : 4

Q.12 मेगस्थनीज के अनुसार, चंद्रगुप्त के रक्षक शाही जुलूसों के दौरान सोने और चांदी से सजाए गए की सवारी करते थे।

- Ans
- 1. घोड़ों
 - 2. हाथियों
 - 3. बैलों
 - 4. एकसिंगे (यूनिकॉर्न)

Question ID : 26433085212
Status : Answered
Chosen Option : 2

Q.13 भारत के राष्ट्रपति ने सितंबर 2022 में वरिष्ठ अधिवक्ता _____ को भारत के लिए अगला महान्यायवादी (अटॉर्नी-जनरल) नियुक्त किया।

- Ans
- 1. आर वेंकटरमणि
 - 2. जसबीना अहलवालिया
 - 3. राम जेठमलानी
 - 4. प्रवीन आनंद

Question ID : 264330114917
Status : Answered
Chosen Option : 1

Q.14 BCCI का पूर्ण रूप क्या है?

- Ans
- 1. Board of Control for Cricket in India (बोर्ड ऑफ कंट्रोल फॉर क्रिकेट इन इंडिया)
 - 2. Board of Control of Cycling in India (बोर्ड ऑफ कंट्रोल ऑफ साइकिलिंग इन इंडिया)
 - 3. Basic Cricket Control Board (बेसिक क्रिकेट कंट्रोल बोर्ड)
 - 4. Board of Cricket Control (बोर्ड ऑफ क्रिकेट कंट्रोल)

Question ID : 264330116286
Status : Answered
Chosen Option : 1

Q.15 सिंथेटिक फाइबर, सिंथेटिक रबर, प्लास्टिक, ड्राई-स्टफ, इग्स और फार्मास्यूटिकल्स के निर्माण के लिए किसका उपयोग किया जाता है?

- Ans
- 1. प्राकृतिक गैस
 - 2. कोयला
 - 3. गन्ना
 - 4. पेट्रोरसायन

Question ID : 264330115572
Status : Answered
Chosen Option : 1

Q.16 नकद आरक्षित अनुपात के अलावा, बैंकों को अल्पावधि में नकद रूप में कुछ रिज़र्व रखने की भी आवश्यकता होती है, जिसे _____ कहा जाता है।

- Ans
- 1. राज्य तरलता अनुपात
 - 2. वैधानिक लाइसेंस अनुपात
 - 3. वैधानिक तरलता अनुपात
 - 4. वैधानिक तरलता रेपो

Question ID : 264330115325
Status : Answered
Chosen Option : 4

Q.17 निम्नलिखित में से कौन सी एक अवसादी चट्टान नहीं है?

- Ans
- 1. मृत्तिका
 - 2. शैल
 - 3. बलुआ पत्थर
 - 4. ग्रेनाइट

Question ID : 26433089661
Status : Answered
Chosen Option : 4

Q.18 'पवनों का देश' कहे जाने वाले देश की पहचान करें।

- Ans
- 1. जर्मनी
 - 2. पोलैंड
 - 3. चेक गणराज्य
 - 4. डेनमार्क

Question ID : 26433096236
Status : Not Answered
Chosen Option : --

Q.19 कालबेलिया किस भारतीय राज्य का प्रसिद्ध लोक नृत्य है?

- Ans
- 1. बिहार
 - 2. ओडिशा
 - 3. पश्चिम बंगाल
 - 4. राजस्थान

Question ID : 26433072923
Status : Answered
Chosen Option : 4

Q.20 ICC U19 विश्व कप में U -19 भारतीय क्रिकेट टीम के कोच कौन थे?

- Ans
- 1. मोहम्मद कैफ
 - 2. श्रधिकेश कनितकर
 - 3. अजीत अगरकर
 - 4. अनिल कुंबले

Question ID : 26433090750
Status : Answered
Chosen Option : 1

Section : Part-C-Elementary Mathematics

Q.1 $1 \div 2 + 3 - 5 \times \frac{1}{3}$ of $15 - \{75 \div (28 - 3)\}$ का मान क्या होगा?

- Ans
- 1. $\frac{49}{2}$
 - 2. 25
 - 3. -25
 - 4. $\frac{-49}{2}$

Question ID : 26433075177
Status : Answered
Chosen Option : 4

Q.2 एक डबल बेड का अंकित मूल्य ₹42,000 है। ग्राहक को ₹1,000 की नकद छूट मिलती है और 5% से 10% छूट का वादा करने वाला एक स्क्रेच कार्ड मिलता है। बेड के न्यूनतम और अधिकतम विक्रय मूल्य के बीच का अंतर ज्ञात करें।

- Ans
- 1. ₹2,050
 - 2. ₹1,910
 - 3. ₹1,940
 - 4. ₹1,880

Question ID : 26433080111
Status : Not Answered
Chosen Option : --

Q.3 18, 24 और 25 से विभाज्य 6 अंकीय सबसे छोटी संख्या के अंकों का योग ज्ञात करें।

- Ans
- 1. 12
 - 2. 9
 - 3. 10
 - 4. 15

Question ID : 264330116634
Status : Not Answered
Chosen Option : --

Q.4 श्री शर्मा अपनी कुल आय का 15% किराए पर और शेष भाग का 75% अन्य खर्चों पर खर्च करते हैं और तब भी Rs.1,700 मासिक बचाते हैं। उसकी मासिक आय क्या है?

- Ans
- 1. Rs.7,000
 - 2. Rs.7,500
 - 3. Rs.8,000
 - 4. Rs.8,500

Question ID : 26433080296
Status : Answered
Chosen Option : 3

Q.5 3, 12, 14 का चतुर्थानुपाती _____ होता है।

- Ans
- 1. 28
 - 2. 49
 - 3. 56
 - 4. 35

Question ID : 26433080119
Status : Answered
Chosen Option : 3

Q.6 एक सब्जी विक्रेता अपनी बिक्री वास्तविक वजन से 12% कम वजन का उपयोग करके करता है और फिर क्रय मूल्य पर 32% का लाभ कमाता है। कुल प्रतिशत लाभ ज्ञात कीजिए।

- Ans
- 1. 44%
 - 2. 45%
 - 3. 50%
 - 4. 40%

Question ID : 26433075913
Status : Answered
Chosen Option : 3

Q.7 ₹500 की धनराशि पर 2 वर्षों के लिए वार्षिक रूप से चक्रवृद्धि हुए चक्रवृद्धि ब्याज और साधारण ब्याज के बीच का अंतर ₹1.25 है। वार्षिक ब्याज दर ज्ञात कीजिए।

- Ans
- 1. 5%
 - 2. 3%
 - 3. 2%
 - 4. 4%

Question ID : 26433074296
Status : Answered
Chosen Option : 1

Q.8 A, B और C एक कार्य को क्रमशः 30, 60 और 120 दिनों में पूरा कर सकते हैं। A कार्य पूरा होने से 10 दिन पहले काम छोड़ देता है और B कार्य पूरा होने से 5 दिन पहले काम छोड़ देता है। सम्पूर्ण कार्य को पूरा करने के लिए आवश्यक दिनों की संख्या ज्ञात करें।

- Ans
- 1. 144/7 दिन
 - 2. 170/7 दिन
 - 3. 190/7 दिन
 - 4. 89/7 दिन

Question ID : 264330116902
Status : Answered
Chosen Option : 2

Q.9 21 cm त्रिज्या वाली लोहे की एक गेंद को पिघलाकर पुनः 7 cm त्रिज्या वाली गोलाकार गेंदों में ढाला जाता है। गोलाकार गेंदों की संख्या ज्ञात कीजिए।

- Ans
- 1. 27
 - 2. 21
 - 3. 9
 - 4. 18

Question ID : 26433073052
Status : Answered
Chosen Option : 1

Q.10 5 और 12 के तृतीयानुपाती का 5, 8 और 9 के चतुर्थानुपाती से क्या अनुपात है?

- Ans
- 1. 2 : 1
 - 2. 2 : 3
 - 3. 3 : 2
 - 4. 1 : 2

Question ID : 26433087372
Status : Answered
Chosen Option : 1

Q.11 अनिल ने सुबह अपनी यात्रा शुरू की। सुबह 10 A.M. तक उसने अपनी यात्रा का $\frac{1}{2}$ भाग पूरा किया और उसी दिन दोपहर 1 A.M. तक उसने अपनी यात्रा का $\frac{3}{4}$ भाग पूरा किया। उसने अपनी यात्रा किस समय शुरू की?

- Ans
- 1. 3.30 a.m.
 - 2. 2.00 a.m.
 - 3. 4.00 a.m.
 - 4. 5.00 a.m.

Question ID : 26433075350
Status : Not Answered
Chosen Option : --

Q.12 3 के पहले 10 गुणजों का औसत ज्ञात करें।

- Ans
- 1. 15.5
 - 2. 14.5
 - 3. 11.5
 - 4. 16.5

Question ID : 26433076393
Status : Answered
Chosen Option : 4

Q.13 एक वस्तु ₹1,200 पर सूचीबद्ध है। एक ग्राहक दो क्रमागत छूट प्राप्त करने के बाद इसके लिए ₹972 का भुगतान करता है। यदि पहली छूट की दर 10% है, तो दूसरी छूट की दर _____ है।

- Ans
- 1. 16%
 - 2. 10%
 - 3. 14%
 - 4. 12%

Question ID : 26433082384
Status : Answered
Chosen Option : 2

Q.14 यदि आलू का मूल्य 10 प्रतिशत से बढ़ जाता है, तो एक उपयोगकर्ता को अपनी आलू की खपत में कितने प्रतिशत की कटौती करनी होगी, ताकि आलू पर खर्च अपरिवर्तित रहे?

- Ans
- 1. 16.4 प्रतिशत
 - 2. 12.5 प्रतिशत
 - 3. 9.1 प्रतिशत
 - 4. 15.8 प्रतिशत

Question ID : 264330116822
Status : Answered
Chosen Option : 3

Q.15 A और B एक काम को क्रमशः 18 दिन और 36 दिन में पूरा कर सकते हैं। वे 8 दिन तक एक साथ काम करते हैं और फिर A काम छोड़ देता है। शेष काम को पूरा करने में B को कितने दिन लगेंगे?

- Ans
- 1. 15
 - 2. 18
 - 3. 10
 - 4. 12

Question ID : 26433076403
Status : Answered
Chosen Option : 4

Q.16 8 cm ऊँचाई और 4 cm आधार त्रिज्या वाले एक शंकु को 8 cm × 6 cm × 4 cm के लकड़ी के आयताकार ब्लॉक से बनाया जाता है। व्यर्थ हुई लकड़ी का प्रतिशत लगभग _____ होगा।

- Ans
- 1. 48%
 - 2. 56%
 - 3. 30%
 - 4. 58%

Question ID : 26433075399
Status : Not Answered
Chosen Option : --

Q.17 अरविंद, भानु से $\frac{5}{4}$ गुना तेज दौड़ता है। यदि किसी दौड़ में, अरविंद भानु को 60m की लीड देता है, तो प्रारंभिक बिंदु से वह दूरी ज्ञात कीजिए, जहाँ वे दोनों मिलेंगे।

- Ans
- 1. 340 m
 - 2. 300 m
 - 3. 360 m
 - 4. 320 m

Question ID : 26433063957
Status : Answered
Chosen Option : 2

Q.18 अर्जुन 30 km/h की औसत चाल से 10 km की दूरी तक अपनी बाइक चलाता है, और फिर से 25 km/h की औसत चाल से 14 km की यात्रा करता है। पूरी यात्रा के लिए उसकी औसत चाल (लगभग) क्या है?

- Ans
- 1. 29.81 km/h
 - 2. 28.76 km/h
 - 3. 27.68 km/h
 - 4. 26.87 km/h

Question ID : 26433076221
Status : Answered
Chosen Option : 3

Q.19 एक कार का वर्तमान मूल्य ₹ 8,50,000 है और इसका मूल्य 10% प्रति वर्ष की दर से मूल्यहास हो रहा है। 4 वर्ष बाद इसका मूल्य (₹ में) क्या होगा?

- Ans
- 1. 5,47,685
 - 2. 5,57,685
 - 3. 5,57,865
 - 4. 5,67,685

Question ID : 26433075560
Status : Answered
Chosen Option : 2

Q.20 25% का लाभ प्राप्त करने के लिए 1 kg के वास्तविक वजन के बजाय एक बेईमान दुकानदार द्वारा उपयोग किया जाने वाला दोषपूर्ण वजन कितना है?

- Ans
- 1. 980 ग्राम
 - 2. 250 ग्राम
 - 3. 640 ग्राम
 - 4. 800 ग्राम

Question ID : 26433075810
Status : Answered
Chosen Option : 2

Section : Part-D-English

Q.1 Select the most appropriate synonym of the given word.
Earn

- Ans
- 1. Surrender
 - 2. Receive
 - 3. Lose
 - 4. Accord

Question ID : 26433086427
Status : Not Answered
Chosen Option : --

Q.2 Select the most appropriate meaning of the given idiom.

Fit as a fiddle

- Ans
- 1. Limited in scope
 - 2. To be of perfect size
 - 3. Emergency situation
 - 4. In good health

Question ID : 26433073708
Status : Not Answered
Chosen Option : --

Q.3 Select the most appropriate synonym of the given word.

Consistent

- Ans
- 1. Alter
 - 2. Evolve
 - 3. Change
 - 4. Constant

Question ID : 26433073636
Status : Not Answered
Chosen Option : --

Q.4 Select the most appropriate option to fill in the blank.
The private _____ has contributed immensely to the country's economy.

- Ans
- 1. division
 - 2. section
 - 3. sector
 - 4. segment

Question ID : 26433084650
Status : Not Answered
Chosen Option : --

Q.5 Select the word segment that substitutes (replaces) the bracketed word segment correctly and completes the sentence meaningfully.

When the last Tsar of Russia (were arrested by revolutionaries), he and his family were hiding at a palace near St. Petersburg; now that palace is open to tourists.

- Ans
- 1. were arrest by revolutionaries
 - 2. is arrested by revolutionaries
 - 3. is arresting from revolutionaries
 - 4. was arrested by revolutionaries

Question ID : 26433088964
Status : Not Answered
Chosen Option : --

Q.6 Select the most appropriate synonym of the word given below to fill in the blank in the following sentence.

Pamper
My grandmother said, "Don't _____ the kid. He will get spoiled".

- Ans
- 1. coddle
 - 2. bend
 - 3. attend
 - 4. comfortable

Question ID : 26433084777
Status : Not Answered
Chosen Option : --

Q.7 Select the most appropriate option to substitute the underlined segment in the given sentence.

This is an olden building of historical importance.

- Ans
- 1. older
 - 2. very older
 - 3. ancient
 - 4. elder

Question ID : 264330100291
Status : Not Answered
Chosen Option : --

Q.8 Select the correct word for the blanks in the given sentence.

Sushant is a very _____ person and the _____ of first ten natural numbers is 5.5.

- Ans
- 1. honest
 - 2. clever
 - 3. shrewd
 - 4. mean

Question ID : 26433060539
Status : Not Answered
Chosen Option : --

Q.9 Select the most appropriate ANTONYM of the given word.

Generous

- Ans
- 1. Liberal
 - 2. Free
 - 3. Selfless
 - 4. Selfish

Question ID : 26433072270
Status : Not Answered
Chosen Option : --

Q.10 Select the most appropriate meaning of the given idiom.

Take it with a grain of salt

- Ans
- 1. To imagine that someone is working against you
 - 2. To calculate things with utmost precision
 - 3. To understand that something is likely to be untrue
 - 4. To misinterpret that the real situation is hidden

Question ID : 26433073492
Status : Not Answered
Chosen Option : --

Q.11 The sentence given below has one misspelt word. Spot the INCORRECTLY spelt word and select its correct spelling.

Some diseases are due to neurological disorders.

- Ans
- 1. Neurological
 - 2. Neurologecal
 - 3. Newrologecal
 - 4. Newrological

Question ID : 26433073551
Status : Not Answered
Chosen Option : --

Q.12 Select the correct word for the blanks in the given sentence.

The tree has a brown _____ and the dogs _____ at the stranger.

- Ans
- 1. sound
 - 2. tail
 - 3. bark
 - 4. trunk

Question ID : 26433060529
Status : Not Answered
Chosen Option : --

Q.13 Fill in the blank by selecting the meaningful and correctly spelt word from the given options.

Nowadays, the police get a long _____ of drug peddlers every day.

- Ans
- 1. leest
 - 2. least
 - 3. lest
 - 4. list

Question ID : 26433072064
Status : Not Answered
Chosen Option : --

Q.14 The following sentence has been split into four segments. Identify the segment that contains a grammatical error.

The peon / was brought / a cup of / coffee for Naina.

- Ans
- 1. The peon
 - 2. was brought
 - 3. a cup of
 - 4. coffee for Naina

Question ID : 26433094743
Status : Not Answered
Chosen Option : --

Q.15 Select the most appropriate ANTONYM of the given word.
Hope

- Ans
- 1. Despair
 - 2. Fantasy
 - 3. Craving
 - 4. Promise

Question ID : 26433086377
Status : Not Answered
Chosen Option : --

Comprehension:

In the following passage, some words have been deleted. Read the passage carefully and select the most appropriate option to fill in each blank.

An initiative has been (1) _____ in the educational reform sector in form of Social and Emotional Learning (SEL). This novel (2) _____ helps students to understand and manage their own emotions. The students (3) _____ and learn in a constructive manner. This concept (4) _____ momentum with the publication of the best seller by Daniel Goleman titled 'Emotional Intelligence: Why it can matter more than IQ'. It (5) _____ the enhancement of the given competencies: speaking and listening, cooperative skills and problem solving.

SubQuestion No : 16

Q.16 Select the most appropriate option to fill in blank no. 1.

- Ans
- 1. reckoned
 - 2. discovered
 - 3. started
 - 4. established

Question ID : 26433072244

Status : Not Answered

Chosen Option : --

Comprehension:

In the following passage, some words have been deleted. Read the passage carefully and select the most appropriate option to fill in each blank.

An initiative has been (1) _____ in the educational reform sector in form of Social and Emotional Learning (SEL). This novel (2) _____ helps students to understand and manage their own emotions. The students (3) _____ and learn in a constructive manner. This concept (4) _____ momentum with the publication of the best seller by Daniel Goleman titled 'Emotional Intelligence: Why it can matter more than IQ'. It (5) _____ the enhancement of the given competencies: speaking and listening, cooperative skills and problem solving.

SubQuestion No : 17

Q.17 Select the most appropriate option to fill in blank no. 2.

- Ans
- 1. application
 - 2. concept
 - 3. intention
 - 4. experiment

Question ID : 26433072245

Status : Not Answered

Chosen Option : --

Comprehension:

In the following passage, some words have been deleted. Read the passage carefully and select the most appropriate option to fill in each blank.

An initiative has been (1) _____ in the educational reform sector in form of Social and Emotional Learning (SEL). This novel (2) _____ helps students to understand and manage their own emotions. The students (3) _____ and learn in a constructive manner. This concept (4) _____ momentum with the publication of the best seller by Daniel Goleman titled 'Emotional Intelligence: Why it can matter more than IQ'. It (5) _____ the enhancement of the given competencies: speaking and listening, cooperative skills and problem solving.

SubQuestion No : 18**Q.18 Select the most appropriate option to fill in blank no. 3.****Ans** 1. interact 2. act 3. mingle 4. affect

Question ID : 26433072246

Status : Not Answered

Chosen Option : --

Comprehension:

In the following passage, some words have been deleted. Read the passage carefully and select the most appropriate option to fill in each blank.

An initiative has been (1) _____ in the educational reform sector in form of Social and Emotional Learning (SEL). This novel (2) _____ helps students to understand and manage their own emotions. The students (3) _____ and learn in a constructive manner. This concept (4) _____ momentum with the publication of the best seller by Daniel Goleman titled 'Emotional Intelligence: Why it can matter more than IQ'. It (5) _____ the enhancement of the given competencies: speaking and listening, cooperative skills and problem solving.

SubQuestion No : 19**Q.19 Select the most appropriate option to fill in blank no. 4.****Ans** 1. gained 2. gratified 3. relieved 4. profited

Question ID : 26433072247

Status : Not Answered

Chosen Option : --

Comprehension:

In the following passage, some words have been deleted. Read the passage carefully and select the most appropriate option to fill in each blank.

An initiative has been (1) _____ in the educational reform sector in form of Social and Emotional Learning (SEL). This novel (2) _____ helps students to understand and manage their own emotions. The students (3) _____ and learn in a constructive manner. This concept (4) _____ momentum with the publication of the best seller by Daniel Goleman titled 'Emotional Intelligence: Why it can matter more than IQ'. It (5) _____ the enhancement of the given competencies: speaking and listening, cooperative skills and problem solving.

SubQuestion No : 20

Q.20 Select the most appropriate option to fill in blank no. 5.

- Ans
- 1. merges
 - 2. influences
 - 3. compares
 - 4. incorporates

Question ID : 26433072248

Status : Not Answered

Chosen Option : --

Section : Part-D-Hindi

Q.1 निम्न में से शुद्ध वाक्य का चयन कीजिए।

- Ans
- 1. उन लोगों की मनोवृत्ति ठीक नहीं लगती।
 - 2. खुदा की कसम गजब हो गई।
 - 3. इस लड़की का चाल ठीक नहीं है।
 - 4. यहाँ के हवा – पानी बहुत खराब है।

Question ID : 26433063074

Status : Answered

Chosen Option : 2

Q.2 निम्नलिखित वाक्य में रेखांकित खंड के स्थान पर प्रयुक्त होने वाले सबसे उपयुक्त विकल्प का चयन कीजिए-

विनय के पुस्तक पढ़ी।

- Ans
- 1. ने
 - 2. से
 - 3. को
 - 4. में

Question ID : 26433079662

Status : Answered

Chosen Option : 1

Q.3 निम्नलिखित में से किस वाक्य में 'अग्रज' के सही विलोम शब्द का उपयोग हुआ है?

- Ans
- 1. मोहन मेरा ही आनुज है।
 - 2. मोहन मेरा अपना अनुज्य है।
 - 3. मोहन मेरा अनुज है।
 - 4. मोहन मेरा अनूज है।

Question ID : 26433091220
Status : Answered
Chosen Option : 3

Q.4 दिए गए शब्दों में से उचित शब्द से वाक्य पूर्ण करें --
महानगरों में कई जगह कूड़े के _____ दिखाई देते हैं।

- Ans
- 1. अंबरसारी
 - 2. अंबर
 - 3. अंबर
 - 4. अंबारी

Question ID : 26433062910
Status : Answered
Chosen Option : 2

Q.5 निम्नलिखित वाक्य में रेखांकित शब्द का दिए गये विकल्पों में से कौन-सा शब्द पर्यायवाची नहीं है?
सरदार पटेल की प्रतिमा 'लोहे' की बनी है।

- Ans
- 1. अयस
 - 2. लाह
 - 3. लौह
 - 4. आहन

Question ID : 26433085072
Status : Answered
Chosen Option : 4

Q.6 निम्न में से किस वाक्य में 'कलह' के सही पर्यायवाची शब्द का प्रयोग हुआ है?

- Ans
- 1. राधा ने उन दोनों की सुलह कराई।
 - 2. सर्वत्र शांति छाई हुई है।
 - 3. रतन और मयंक के बीच कल विवाद हो गया।
 - 4. निशा का सुजय से कोई रिश्ता नहीं है।

Question ID : 26433067016
Status : Answered
Chosen Option : 3

Q.7 निम्न वाक्य में रेखांकित शब्द-समूह के लिए सर्वाधिक उपयुक्त विकल्प चुनें।
तुम्हारा अपराध क्षमा किए जाने योग्य है।

- Ans 1. अशोभनीय
 2. क्षम्य
 3. अक्षम्य
 4. गलत

Question ID : 26433079208
Status : Answered
Chosen Option : 2

Q.8 'यथासंभव' के लिए कौन सा वाक्यांश उपयुक्त होगा?

- Ans 1. जहाँ तक हो सके
 2. संभवतः
 3. यथारूप
 4. संभव हो

Question ID : 26433062692
Status : Answered
Chosen Option : 1

Q.9 वाक्य में रेखांकित अंश के लिए उचित मुहावरा दिए गए विकल्पों में से चुनिए-
न माया मिली न राम, वह कहीं का नहीं रहा।

- Ans 1. घड़ों पानी पड़ना
 2. गूलर का फूल
 3. घर का न घाट का
 4. चल बसना

Question ID : 26433062305
Status : Answered
Chosen Option : 3

Q.10 निम्नलिखित अर्थ को समझाने वाले मुहावरे का चयन विकल्पों में से कीजिए।
इज्जत उतारना

- Ans 1. मिट्टी पलीद करना
 2. मखमली जूते मारना
 3. मुँह की बात छीनना
 4. मुँह चाटना

Question ID : 26433070013
Status : Answered
Chosen Option : 1

Q.11 निम्नलिखित वाक्य के किस शब्द में अशुद्धि है?
प्रत्येक छोटी-मोटी विशेषता को देखनि चाहिए।

- Ans
- 1. प्रत्येक
 - 2. विशेषता
 - 3. चाहिए।
 - 4. देखनि

Question ID : 26433066771
Status : Answered
Chosen Option : 4

Q.12 निम्नलिखित विकल्पों में से 'जो उचित समय पर न हो' वाक्यांश के लिए एक सार्थक शब्द क्या होगा ?

- Ans
- 1. सामयिक
 - 2. असामयिक
 - 3. काल्पनिक
 - 4. कल्पनाजन्य

Question ID : 26433062536
Status : Answered
Chosen Option : 2

Q.13 समझ-बूझकर काम करना चाहिए।
विकल्पों में से चुनकर बताइए कि उक्त वाक्य में रेखांकित पद किस प्रकार की क्रिया है?

- Ans
- 1. पुनरुक्त क्रिया
 - 2. संयुक्त क्रिया
 - 3. प्रेरणार्थक क्रिया
 - 4. नाम बोधक क्रिया

Question ID : 26433079228
Status : Answered
Chosen Option : 3

Q.14 निम्नलिखित में से किस वाक्य में तुलनात्मक विशेषण की उत्तमावस्था के अशुद्ध रूप का उपयोग हुआ है?

- Ans
- 1. इन सब में से तुम सबसे सुन्दर हो।
 - 2. उसका स्वभाव कोमलरतम है।
 - 3. सभी महासागरों में प्रशांत महासागर विशालतम है।
 - 4. हल्क सबसे ज्यादा बलवान है।

Question ID : 26433062996
Status : Answered
Chosen Option : 2

Q.15 निम्नलिखित वाक्यांश के लिए सार्थक शब्द का चयन विकल्पों में से कीजिए।
जिस घटना को वचन से व्यक्त न किया जा सके

- Ans
- 1. अनुकरणीय
 - 2. अनिर्वचनीय
 - 3. अविस्मरणीय
 - 4. अतुलनीय

Question ID : 26433069983
Status : Answered
Chosen Option : 2

Comprehension:

निम्नलिखित गद्यांश में कुछ शब्दों को हटा दिया गया है। दिए गए विकल्पों की सहायता से रिक्त स्थानों की पूर्ति कीजिए। प्रत्येक संख्या के लिए सबसे उपयुक्त विकल्प का चयन कीजिए।
मानव सभ्यता वनों में पलकर 1. _____ हुई है। आदिमानव का जन्म वहीं हुआ तथा वहां के वृक्षों के फल
2. _____ ही वह बड़ा हुआ। भारतीय 3. _____ के अधिकांश महान ग्रन्थ ऋषि मुनियों द्वारा
4. _____ में ही रचे गए। आज की स्थिति यह है कि मनुष्य पेड़-पौधों को नष्ट करने के लिए
5. _____ हो गया है।

SubQuestion No : 16

Q.16 रिक्त स्थान 1 की पूर्ति के लिए सबसे उपयुक्त विकल्प का चयन कीजिए।

- Ans
- 1. खलम
 - 2. अमूल्य
 - 3. बड़ा
 - 4. विकसित

Question ID : 264330110999
Status : Answered
Chosen Option : 4

Comprehension:

निम्नलिखित गद्यांश में कुछ शब्दों को हटा दिया गया है। दिए गए विकल्पों की सहायता से रिक्त स्थानों की पूर्ति कीजिए। प्रत्येक संख्या के लिए सबसे उपयुक्त विकल्प का चयन कीजिए।
मानव सभ्यता वनों में पलकर 1. _____ हुई है। आदिमानव का जन्म वहीं हुआ तथा वहां के वृक्षों के फल
2. _____ ही वह बड़ा हुआ। भारतीय 3. _____ के अधिकांश महान ग्रन्थ ऋषि मुनियों द्वारा
4. _____ में ही रचे गए। आज की स्थिति यह है कि मनुष्य पेड़-पौधों को नष्ट करने के लिए
5. _____ हो गया है।

SubQuestion No : 17

Q.17 रिक्त स्थान 2 की पूर्ति के लिए सबसे उपयुक्त विकल्प का चयन कीजिए।

- Ans
- 1. देखकर
 - 2. तोड़कर
 - 3. खाकर
 - 4. नुकसानकर

Question ID : 264330111000
Status : Answered
Chosen Option : 3

Comprehension:

निम्नलिखित गद्यांश में कुछ शब्दों को हटा दिया गया है। दिए गए विकल्पों की सहायता से रिक्त स्थानों की पूर्ति कीजिए। प्रत्येक संख्या के लिए सबसे उपयुक्त विकल्प का चयन कीजिए।
मानव सभ्यता वनों में पलकर 1. _____ हुई है। आदिमानव का जन्म वहीं हुआ तथा वहां के वृक्षों के फल
2. _____ ही वह बड़ा हुआ। भारतीय 3. _____ के अधिकांश महान ग्रन्थ ऋषि मुनियों द्वारा
4. _____ में ही रचे गए। आज की स्थिति यह है कि मनुष्य पेड़-पौधों को नष्ट करने के लिए
5. _____ हो गया है।

SubQuestion No : 18

Q.18 रिक्त स्थान 3 की पूर्ति के लिए सबसे उपयुक्त विकल्प का चयन कीजिए।

- Ans
- 1. परिवार
 - 2. देख-रेख
 - 3. संरक्षण
 - 4. संस्कृति

Question ID : 264330111001

Status : Answered

Chosen Option : 4

Comprehension:

निम्नलिखित गद्यांश में कुछ शब्दों को हटा दिया गया है। दिए गए विकल्पों की सहायता से रिक्त स्थानों की पूर्ति कीजिए। प्रत्येक संख्या के लिए सबसे उपयुक्त विकल्प का चयन कीजिए।
मानव सभ्यता वनों में पलकर 1. _____ हुई है। आदिमानव का जन्म वहीं हुआ तथा वहां के वृक्षों के फल
2. _____ ही वह बड़ा हुआ। भारतीय 3. _____ के अधिकांश महान ग्रन्थ ऋषि मुनियों द्वारा
4. _____ में ही रचे गए। आज की स्थिति यह है कि मनुष्य पेड़-पौधों को नष्ट करने के लिए
5. _____ हो गया है।

SubQuestion No : 19

Q.19 रिक्त स्थान 4 की पूर्ति के लिए सबसे उपयुक्त विकल्प का चयन कीजिए।

- Ans
- 1. महल
 - 2. वातावरण
 - 3. आवश्यक
 - 4. तपोवन

Question ID : 264330111002

Status : Answered

Chosen Option : 2

Comprehension:

निम्नलिखित गद्यांश में कुछ शब्दों को हटा दिया गया है। दिए गए विकल्पों की सहायता से रिक्त स्थानों की पूर्ति कीजिए। प्रत्येक संख्या के लिए सबसे उपयुक्त विकल्प का चयन कीजिए।
मानव सभ्यता वनों में पलकर 1. _____ हुई है। आदिमानव का जन्म वहीं हुआ तथा वहां के वृक्षों के फल
2. _____ ही वह बड़ा हुआ। भारतीय 3. _____ के अधिकांश महान ग्रन्थ ऋषि मुनियों द्वारा
4. _____ में ही रचे गए। आज की स्थिति यह है कि मनुष्य पेड़-पौधों को नष्ट करने के लिए
5. _____ हो गया है।

SubQuestion No : 20

Q.20 रिक्त स्थान 5 की पूर्ति के लिए सबसे उपयुक्त विकल्प का चयन कीजिए।

- Ans 1. विचरण
 2. तत्पर
 3. सहज
 4. संभव

Question ID : 264330111003

Status : Answered

Chosen Option : 2

KD Job Updates

Constable GD in CAPFs SSF Rifleman GD in Assam Rifles and Sepoy in NCB Examination 2022

Roll Number	KD Job Updates
Candidate Name	KD Job Updates
Venue Name	Pariksha Desk
Exam Date	12/01/2023
Exam Time	5:15 PM - 6:15 PM
Subject	Constable GD Examination 2022

Section : Part-A-General Intelligence and Reasoning

Q.1 उस विकल्प का चयन करें जो पांचवें अक्षर-समूह से उसी प्रकार संबंधित है जिस प्रकार दूसरा अक्षर-समूह पहले अक्षर-समूह से संबंधित है और चौथा अक्षर-समूह तीसरे अक्षर-समूह से संबंधित है।
FALLEN : TJPOCG :: DANGER : XJKQCE :: CABLES : ?

- Ans
- 1. DCEPJY
 - 2. YJPEBD
 - 3. ZJPECD
 - 4. YJPECD

Question ID : 26433057250

Status : Answered

Chosen Option : 4

Q.2 दिए गए विकल्पों में से उस अक्षर-समूह का चयन कीजिए जो निम्न श्रृंखला में प्रश्न-चिह्न (?) के स्थान पर आ सकता है।
WBL, DIS, KPZ, RWG, ?

- Ans
- 1. ZDN
 - 2. YDN
 - 3. XDN
 - 4. YEM

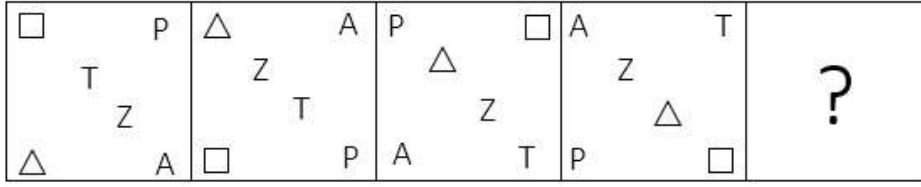
Question ID : 26433079033

Status : Answered

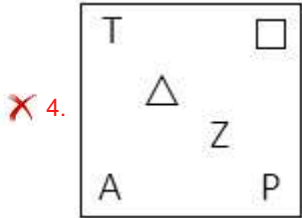
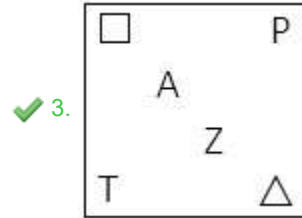
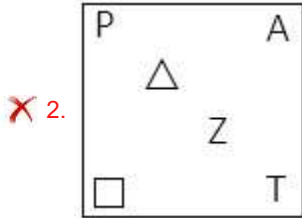
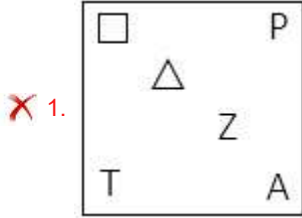
Chosen Option : 2

Q.3 यदि श्रृंखला जारी रखनी है तो कौन-सी आकृति प्रश्न चिह्न (?) के स्थान पर

आएगी?



Ans



KD Job Updates

Question ID : 26433076625
 Status : Answered
 Chosen Option : 3

Q.4 'A ^ P' का अर्थ है 'A, P का पति है'।
 'A % P' का अर्थ है 'A, P का पिता है'।
 'A = P' का अर्थ है 'A, P की बहन है'।
 'A & P' का अर्थ है 'A, P की बेटी है'।
 यदि F & G = H ^ J है, तो निम्नलिखित में से कौन-सा सही है?

- Ans
- ✓ 1. J, G के भाई की पत्नी है।
 - ✗ 2. H और F सहोदर हैं।
 - ✗ 3. F, J की बेटी है।
 - ✗ 4. G, J की माँ है।

Question ID : 26433086995
 Status : Answered
 Chosen Option : 1

Q.5 निम्नलिखित में से कौन-सी संख्या दी गई श्रृंखला में प्रश्न चिह्न (?) के स्थान पर आएगी?
4, 24, 30, 180, 186, ?

- Ans
- 1. 192
 - 2. 1118
 - 3. 1116
 - 4. 1110

Question ID : 26433087034
Status : Answered
Chosen Option : 3

Q.6 किस विकल्प में निम्नलिखित शब्दों का वह क्रम दिया गया है, जिस क्रम में वे अंग्रेजी शब्दकोश में आते हैं?

- 1 Pillow
- 2 Pile
- 3 Pint
- 4 Picked
- 5 Pickle

- Ans
- 1. 4,5,2,1,3
 - 2. 5,4,2,1,3
 - 3. 2,1,3,5,4
 - 4. 2,3,4,1,5

Question ID : 26433069274
Status : Answered
Chosen Option : 1

Q.7 एक निश्चित कूट भाषा में, 'live life happily' को '447' के रूप में कूटबद्ध किया जाता है, 'everyone is here' को '824' के रूप में कूटबद्ध किया जाता है और 'be grateful' को '28' के रूप में कूटबद्ध किया जाता है। उसी भाषा में 'count your blessings' को किस प्रकार कूटबद्ध किया जाएगा?

- Ans
- 1. 658
 - 2. 856
 - 3. 549
 - 4. 459

Question ID : 26433067780
Status : Answered
Chosen Option : 3

Q.8 निम्नलिखित में से कौन-सा अक्षर-समूह नीचे दी गई अक्षर-समूह श्रृंखला में प्रश्न-चिह्न (?) के स्थान पर आकर श्रृंखला को पूर्ण करेगा?
UH, BD, IA, PY, ?

- Ans
- 1. VX
 - 2. WY
 - 3. WW
 - 4. WX

Question ID : 26433067288
Status : Answered
Chosen Option : 4

Q.9 नीचे दिए गए समीकरण को गणितीय रूप से सही बनाने के लिए किन दो चिन्हों को परस्पर बदलना चाहिए?

$$25 + 200 \div 8 \times 16 - 48 = 77$$

- Ans
- 1. ÷ और -
 - 2. ÷ और ×
 - 3. × और -
 - 4. - और +

Question ID : 264330117552

Status : Answered

Chosen Option : 2

Q.10 V, W, X, Y, Z, A, B और C एक वर्गाकार मेज के चारों ओर मेज के केंद्र की ओर मुख करके बैठे थे। इनमें से कुछ कोनों पर बैठे थे, और कुछ भुजाओं के ठीक मध्य में बैठे थे। C, W के दाईं ओर ठीक बगल में बैठा था। B, Z के बाईं ओर तीसरे स्थान पर बैठा था। A, X और C के ठीक बगल में बैठा था। Z किसी भी कोने पर नहीं बैठा था, और W और Y के ठीक बगल में बैठा था। इनमें से कौन A के दाईं ओर तीसरे स्थान पर बैठा था?

- Ans
- 1. B
 - 2. Y
 - 3. Z
 - 4. V

Question ID : 26433087012

Status : Answered

Chosen Option : 4

Q.11 एक निश्चित भाषा में EARLY को HDUOB और GAMES को JDPHV के रूप में कूटबद्ध किया जाता है। इसी भाषा में INDEX को किस प्रकार कूटबद्ध किया जाएगा?

- Ans
- 1. DNIEX
 - 2. KPFGZ
 - 3. XEDNI
 - 4. LQGHA

Question ID : 26433074593

Status : Answered

Chosen Option : 4

Q.12 छः मित्र अमित, बंटी, वैभव, हर्षित, पुलकित और गगन एक वृत्ताकार मेज के चारों ओर केंद्र की ओर मुख करके बैठे हैं। बंटी, हर्षित और वैभव के ठीक बगल में बैठा है। अमित, पुलकित और वैभव के ठीक बगल में बैठा है। अमित और गगन के ठीक बगल में कौन बैठा है?

- Ans
- 1. पुलकित
 - 2. हर्षित
 - 3. वैभव
 - 4. बंटी

Question ID : 26433068078

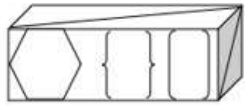
Status : Answered

Chosen Option : 1

Q.13


उस विकल्प का चयन कीजिए, जो दी गई आकृति में अंतर्निहित है (घूमने की

अनुमति नहीं है)।



Ans

✗ 1.



✗ 2.



✗ 3.



✓ 4.



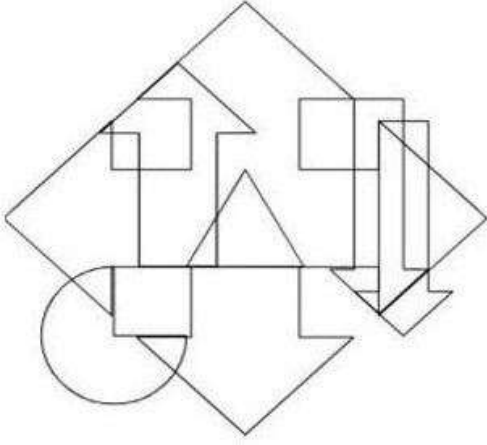
Question ID : 26433082895

Status : Answered

Chosen Option : 4

KD Job Updates

Q.14 उस विकल्प आकृति का चयन करें जो नीचे दी गई आकृति में अंतर्निहित है।
(आकृति घुमाने की अनुमति नहीं है)




Ans

✗ 1.



✗ 2.



✗ 3.



✓ 4.



KD Job Updates

Question ID : 26433085755

Status : Answered

Chosen Option : 4

Q.15 निम्नलिखित में से कौन-सी संख्या दी गई श्रंखला में प्रश्न-चिह्न (?) के स्थान पर आएगी?
4, 7, 12, 19, 28, 39, 52, 67, ?

Ans ✓ 1. 84

✗ 2. 83

✗ 3. 81

✗ 4. 82

Question ID : 26433069052

Status : Answered

Chosen Option : 1

Q.16 उस विकल्प का चयन करें जो तीसरे शब्द से उसी प्रकार संबंधित है जिस प्रकार दूसरा शब्द पहले शब्द से संबंधित है। (शब्दों को अर्थपूर्ण शब्दों के रूप में मानना है, और उन्हें शब्द में अक्षरों/व्यंजनों/स्वरों की संख्या के आधार पर एक-दूसरे से संबंधित नहीं करना है।)

रंग : लाल :: वाहन : ?

- Ans
- ✓ 1. ट्रक
 - ✗ 2. पेट्रोल
 - ✗ 3. सड़क
 - ✗ 4. टायर

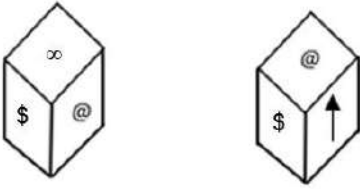
Question ID : 26433082936

Status : Answered

Chosen Option : 1

Q.17 एक ही पासे की दो अलग-अलग स्थितियों को दर्शाया गया है जिस पर @, Δ, □, \$, ∞ और ↑ चिह्न बने

हैं। '∞' दर्शाने वाले फलक के विपरीत फलक पर स्थित चिह्न ज्ञात कीजिए।



- Ans
- ✓ 1. ↑
 - ✗ 2. □
 - ✗ 3. Δ
 - ✗ 4. @

Question ID : 26433085515

Status : Answered

Chosen Option : 1

Q.18 उस समुच्चय का चयन करें, जिसमें संख्याएँ उसी प्रकार संबंधित हैं, जिस प्रकार निम्नलिखित समुच्चयों की संख्याएँ हैं।

(नोट: संख्याओं को उसके घटक अंकों में विभाजित किए बिना, पूर्ण संख्याओं पर ही गणितीय संक्रियाएँ की जानी चाहिए। जैसे 13 - मान लीजिए 13 पर गणितीय संक्रियाएँ जैसे कि 13 में जोड़ना/घटाना/गुणा करना आदि किया जा सकता है। 13 को 1 और 3 में तोड़कर और फिर 1 और 3 पर गणितीय संक्रियाएँ करने की अनुमति नहीं है।)

(360, 65, 25)

(216, 44, 20)

- Ans
- ✗ 1. (80, 19, 9)
 - ✗ 2. (179, 66, 30)
 - ✓ 3. (198, 35, 13)
 - ✗ 4. (190, 35, 17)

Question ID : 26433076476

Status : Answered

Chosen Option : 3

Q.19 नीचे दिए गए समीकरण को गणितीय रूप से सही बनाने के लिए किन दो गणितीय चिह्नों को परस्पर बदलना चाहिए?
 $24 - 8 + 12 \div 48 \times 36 = 23$

- Ans
- 1. - और +
 - 2. \times और \div
 - 3. + और \div
 - 4. - और \times

Question ID : 264330114186
Status : Answered
Chosen Option : 1

Q.20 इस प्रश्न में तीन कथन दिए गए हैं, जिसके बाद दो निष्कर्ष I और II दिए गए हैं। कथनों को सत्य मानते हुए, भले ही वे सर्वज्ञात तथ्यों से भिन्न प्रतीत होते हों, निर्णय कीजिए कि कौन-सा/से निष्कर्ष कथनों का तार्किक रूप से अनुसरण करता है/अनुसरण करते हैं।

कथन:

सभी दरवाजे दीवारें हैं।

सभी दीवारें कमरे हैं।

सभी कमरे फ्लैट हैं।

निष्कर्ष:

I. कुछ फ्लैट दरवाजे हैं।

II. सभी दीवारें फ्लैट हैं।

- Ans
- 1. केवल निष्कर्ष II अनुसरण करता है।
 - 2. न तो निष्कर्ष I और न ही II अनुसरण करता है।
 - 3. केवल निष्कर्ष I अनुसरण करता है।
 - 4. निष्कर्ष I और II दोनों अनुसरण करते हैं।

Question ID : 26433070382
Status : Answered
Chosen Option : 4

Section : Part-B-General Knowledge and General awareness

Q.1 भारतीय संविधान में समानता के अधिकार संबंधी _____ अनुच्छेद हैं।

- Ans
- 1. 3
 - 2. 4
 - 3. 5
 - 4. 2

Question ID : 264330115640
Status : Answered
Chosen Option : 3

Q.2 निम्नलिखित में से कौन 'खुदाई खिदमतगारों' के अहिंसक आंदोलन के संस्थापक थे?

- Ans
- 1. अबुल कलाम आज़ाद
 - 2. सैयद अहमद खान
 - 3. खान अब्दुल गफ्फार खान
 - 4. मोहम्मद अली जिन्ना

Question ID : 26433090590

Status : Answered

Chosen Option : 3

Q.3 भारतीय शहर की पहली पूर्ण जनगणना 1830 में _____ द्वारा की गई थी।

- Ans
- 1. जॉन ग्रंट
 - 2. हेनरी वाल्टर
 - 3. एरेटोस्थेनेज
 - 4. जेम्स रेनेल

Question ID : 264330116025

Status : Not Answered

Chosen Option : --

Q.4 निम्नलिखित में से कौन से राजनीतिक नेता जून 2022 में राघव चड्ढा के बाद राजिंदर नगर, दिल्ली से विधान सभा के सदस्य बने?

- Ans
- 1. दुर्गेश पाठक
 - 2. मनोज तिवारी
 - 3. संजीव झा
 - 4. आदर्श शास्त्री

Question ID : 264330114905

Status : Not Answered

Chosen Option : --

Q.5 एशियाई खेल 2018 में कुल कितने खेल/सपोर्ट थे?

- Ans
- 1. 41
 - 2. 55
 - 3. 36
 - 4. 47

Question ID : 264330115957

Status : Not Answered

Chosen Option : --

Q.6 प्रसिद्ध लोसांग महोत्सव निम्नलिखित में से किस राज्य में मनाया जाता है?

- Ans
- 1. असम
 - 2. मणिपुर
 - 3. राजस्थान
 - 4. सिक्किम

Question ID : 264330115091

Status : Answered

Chosen Option : 4

Q.7 नवंबर 2021 में, निम्नलिखित में से किस नर्तक को कला में उनके योगदान के लिए पद्म श्री से सम्मानित किया गया?

- Ans
- 1. शांति देवी
 - 2. छुटनी देवी
 - 3. सुमित्रा महाजन
 - 4. मंजम्मा जोगती

Question ID : 264330115816

Status : Answered

Chosen Option : 4

Q.8 RUSA, भारतीय राज्य विश्वविद्यालयों के समृद्ध विस्तार द्वारा किए गए वचन को आगे बढ़ाने के लिए केंद्र सरकार का योगदान है। RUSA का पूर्ण रूप है:

- Ans
- 1. Rashtriya Uchchar Seekh Abhiyan (राष्ट्रीय उच्चतर सीख अभियान)
 - 2. Rashtriya Uchchar Shiksha Abhiyan (राष्ट्रीय उच्चतर शिक्षा अभियान)
 - 3. Rashtriya Unchi Shiksha Abhiyan (राष्ट्रीय ऊंची शिक्षा अभियान)
 - 4. Rajiv Gandhi Uchchar Shiksha Abhiyan (राजीव गांधी उच्चतर शिक्षा अभियान)

Question ID : 264330116162

Status : Not Answered

Chosen Option : --

Q.9 निम्नलिखित में से कौन से तत्व की परमाणु त्रिज्या न्यूनतम है?

- Ans
- 1. O
 - 2. Be
 - 3. Li
 - 4. B

Question ID : 264330115153

Status : Not Answered

Chosen Option : --

Q.10 भारत में, यह देश का एकमात्र उद्योग है, जो मूल्य श्रृंखला में आत्मनिर्भर और पूर्ण है अर्थात कच्चे माल से लेकर उच्चतम मूल्य वर्धित उत्पादों तक। यहां किस उद्योग की बात हो रही है?

- Ans
- 1. लोहा और इस्पात उद्योग
 - 2. वस्त्र उद्योग
 - 3. निजी क्षेत्र उद्योग
 - 4. लघु उद्योग

Question ID : 264330115586

Status : Answered

Chosen Option : 4

Q.11 निम्नलिखित में से किस अंतर्राष्ट्रीय ओलंपिक समिति के सत्र में थॉमस बाक ओलंपिक एजेंडा 2020+5 पर चर्चा हुई?

- Ans
- 1. टोक्यो में आयोजित 138वें सत्र
 - 2. वर्चुअली आयोजित 137वें सत्र
 - 3. वर्चुअली आयोजित 136वें सत्र
 - 4. लुसाने में आयोजित 135वें सत्र

Question ID : 26433086724

Status : Not Answered

Chosen Option : --

Q.12 वैयक्तिक प्रयोज्य आय के संदर्भ में निम्नलिखित में से कौन सा सही है?

- Ans
- 1. वैयक्तिक प्रयोज्य आय \equiv वैयक्तिक आय + वैयक्तिक कर अदायगी - गैरकर अदायगी
 - 2. वैयक्तिक प्रयोज्य आय \equiv वैयक्तिक आय + वैयक्तिक कर अदायगी + गैरकर अदायगी
 - 3. वैयक्तिक प्रयोज्य आय \equiv वैयक्तिक आय - वैयक्तिक कर अदायगी - गैरकर अदायगी
 - 4. वैयक्तिक प्रयोज्य आय \equiv वैयक्तिक आय - वैयक्तिक कर अदायगी + गैरकर अदायगी

Question ID : 264330115339

Status : Not Answered

Chosen Option : --

Q.13 साइक्लोस्टोमेटा जबड़े रहित _____ होते हैं।

- Ans
- 1. प्रोटोकोर्डेटा
 - 2. मोलस्का
 - 3. आर्थ्रोपोडा
 - 4. कशेरुकी (वर्टीब्रेटा)

Question ID : 264330115187

Status : Not Answered

Chosen Option : --

Q.14 भारत में राष्ट्रीय विकास परिषद (NDC) की स्थापना _____ में की गई थी।

- Ans
- 1. 1947
 - 2. 1949
 - 3. 1960
 - 4. 1952

Question ID : 264330115371

Status : Answered

Chosen Option : 4

Q.15 गुरु पंकज चरण दास किस भारतीय शास्त्रीय नृत्य के प्रसिद्ध प्रतिपादक हैं?

- Ans
- 1. मोहिनीअट्टम
 - 2. मणिपुरी
 - 3. कथक
 - 4. ओडिसी

Question ID : 26433066532

Status : Not Answered

Chosen Option : --

Q.16 चोल काल के दौरान, मुवेंदवेलन और अरइयार _____ की उपाधियाँ थीं।

- Ans
- 1. राजा के पुत्र
 - 2. धनी भूस्वामियों
 - 3. सेना का सेनापति
 - 4. राजा के मंत्री

Question ID : 26433089853

Status : Answered

Chosen Option : 2

Q.17 कौन-सा जल निकाय भारत को पश्चिम दिशा में घेरता है?

- Ans
- 1. प्रशांत महासागर
 - 2. बंगाल की खाड़ी
 - 3. हिंद महासागर
 - 4. अरब सागर

Question ID : 264330116010

Status : Answered

Chosen Option : 4

Q.18 प्रथम पंचवर्षीय योजना का उद्देश्य _____ था।

- Ans
- 1. कृषि का विकास करना
 - 2. भारत की GDP को बढ़ाना
 - 3. शिक्षा को अधिक बढ़ावा देना
 - 4. विकास की प्रक्रिया शुरू करना

Question ID : 264330116115

Status : Answered

Chosen Option : 1

Q.19 जून 2022 में, रिसर्च एंड एनालिसिस विंग (R&AW) के प्रमुख के रूप में किसका कार्यकाल एक वर्ष के लिए बढ़ा दिया गया है?

- Ans
- 1. सामंत गोयल
 - 2. अरविन्द कुमार
 - 3. रामेश्वर नाथ काव
 - 4. राजिन्दर खन्ना

Question ID : 264330115042

Status : Answered

Chosen Option : 1

Q.20 भारत के संविधान के किस भाग में संघ लोक सेवा आयोग की शक्तियाँ और कार्य शामिल हैं?

- Ans
- 1. भाग XV
 - 2. भाग XIV
 - 3. भाग XVI
 - 4. भाग XVII

Question ID : 26433074900

Status : Answered

Chosen Option : 2

Section : Part-C-Elementary Mathematics

Q.1 जब 7, 9, 11 और 15 प्रत्येक में से समान संख्या घटा दी जाती है, तो परिणामी संख्याएँ समानुपात में होती हैं। घटाई गई संख्या _____ है।

- Ans
- 1. 3
 - 2. 5
 - 3. 2
 - 4. 4

Question ID : 26433082390

Status : Answered

Chosen Option : 1

Q.2 तीन उम्मीदवारों A, B और C के बीच एक चुनाव में पंजीकृत मतदाताओं में से 80% ने मतदान किया और सभी मत वैध थे। उम्मीदवार B को A से 50% कम मत मिले, और B एवं C द्वारा हासिल किए गए मतों की संख्या के बीच का अंतर 10000 था। यदि B को C से 10% अधिक मत मिले, तो मतदाता सूची में पंजीकृत मतदाताओं की संख्या _____ है।

- Ans
- 1. 430000
 - 2. 537500
 - 3. 175000
 - 4. 220000

Question ID : 26433079922

Status : Not Answered

Chosen Option : --

Q.3 550 m और 650 m की लंबाई वाली दो ट्रेनें क्रमशः 68 km/h और 40 km/h की चाल से विपरीत दिशाओं में एक-दूसरे के समानांतर चल रही हैं। कितने समय में (सेकंड में) वे एक-दूसरे को पार करेंगी?

- Ans
- 1. 40
 - 2. 30
 - 3. 45
 - 4. 35

Question ID : 26433075563

Status : Answered

Chosen Option : 1

Q.4 एक व्यक्ति ने दो वस्तुओं को एक ही मूल्य पर खरीदा और एक को 10% के लाभ पर और दूसरी को 5% की हानि पर बेच दिया। यदि दो विक्रय मूल्यों के बीच का अंतर ₹60 है, तो दोनों वस्तुओं के क्रय मूल्य का योग क्या है?

- Ans
- 1. ₹600
 - 2. ₹900
 - 3. ₹800
 - 4. ₹700

Question ID : 26433074279

Status : Answered

Chosen Option : 3

Q.5 दो उम्मीदवारों के बीच एक चुनाव में, एक उम्मीदवार को कुल वैध मतों के 48% मत मिले। 18% मत अवैध थे। यदि कुल मतों की संख्या 17500 थी, तो दूसरे उम्मीदवार को मिले वैध मतों की संख्या कितनी थी?

- Ans
- 1. 8750
 - 2. 7512
 - 3. 14350
 - 4. 7462

Question ID : 26433082595

Status : Answered

Chosen Option : 4

Q.6 A, B और C एक कार्य को क्रमशः 8, 4 और 16 दिनों में कर सकते हैं। यदि A को हर दूसरे दिन B और C दोनों से सहायता मिलती है, तो A को सम्पूर्ण कार्य को पूरा करने में कितने दिन लगेंगे?

- Ans
- 1. 3/4 दिन
 - 2. 54/11 दिन
 - 3. 26/7 दिन
 - 4. 7/8 दिन

Question ID : 264330116846

Status : Answered

Chosen Option : 3

Q.7 लारा ने एक बैंक में Rs.8,000 की राशि जमा की, जिस पर उसे छमाही रूप से चक्रवृद्धि किया जाने वाला 10% वार्षिक दर से चक्रवृद्धि ब्याज मिलता है। वह 18 महीने के बाद कितनी राशि प्राप्त करेगी?

- Ans
- 1. Rs.9,621
 - 2. Rs.9,261
 - 3. Rs.9,616
 - 4. Rs.9,162

Question ID : 26433065092

Status : Answered

Chosen Option : 2

Q.8 एक त्रिभुज की दो भुजाएँ बराबर हैं, और तीसरी भुजा इनमें से किसी भी भुजा की 1.5 गुनी है। यदि त्रिभुज का परिमाप 14 इकाई है, तो त्रिभुज का क्षेत्रफल _____ वर्ग इकाई होगा।

- Ans
- 1. $\frac{3}{2}\sqrt{7}$
 - 2. $3\sqrt{3}$
 - 3. $3\sqrt{7}$
 - 4. $4\sqrt{7}$

Question ID : 26433071366

Status : Answered

Chosen Option : 3

Q.9 एक ट्रेन, बिना रुके एक निश्चित दूरी को 75 km/h की औसत चाल से तय करती है, और जब वह रुकती है तो समान दूरी को 65 km/h की औसत चाल से तय करती है। वह ट्रेन प्रति घंटा कितने मिनट रुकती है?

- Ans
- 1. 10 मिनट
 - 2. 7 मिनट
 - 3. 9 मिनट
 - 4. 8 मिनट

Question ID : 26433066316

Status : Not Answered

Chosen Option : --

Q.10 सोहन और रोहन मिलकर एक कार्य को 18 दिनों में कर सकते हैं। यदि सोहन अकेला उसी कार्य को 27 दिनों में कर सकता है, तो रोहन अकेले उसी कार्य को पूरा करने में कितने दिन लेगा?

- Ans
- 1. 72
 - 2. 48
 - 3. 66
 - 4. 54

Question ID : 26433075702
Status : Answered
Chosen Option : 4

Q.11 एक विक्रेता Rs.10 में 15 वस्तुएँ खरीदता है और Rs.15 में 10 वस्तुएँ बेचता है। विक्रेता द्वारा अर्जित प्रतिशत लाभ ज्ञात कीजिए।

- Ans
- 1. 225%
 - 2. 125%
 - 3. 150%
 - 4. 100%

Question ID : 26433071308
Status : Answered
Chosen Option : 2

Q.12 प्रथम चार विषम अभाज्य संख्याओं का औसत कितना होगा ?

- Ans
- 1. 6
 - 2. 6.5
 - 3. 4
 - 4. 4.6

Question ID : 26433080098
Status : Answered
Chosen Option : 2

Q.13 यदि 15 cm व्यास के एक ठोस गोले से 125 एक समान छोटे गोले बनाए जाते हैं, तो प्रत्येक छोटे गोले का पृष्ठीय क्षेत्रफल क्या होगा?

- Ans
- 1. $4\pi\text{ cm}^2$
 - 2. $36\pi\text{ cm}^2$
 - 3. $9\pi\text{ cm}^2$
 - 4. $12\pi\text{ cm}^2$

Question ID : 26433076248
Status : Answered
Chosen Option : 3

Q.14 दो वर्षों के लिए 10% वार्षिक की चक्रवृद्धि ब्याज दर पर ₹1,50,000 का ऋण लिया गया है, ब्याज वार्षिक रूप से चक्रवृद्धि किया जाता है। इसका भुगतान समान वार्षिक किस्तों में किया जाना है; और किस्त का भुगतान प्रत्येक वर्ष के अंत में किया जाना है। समान वार्षिक किस्त का मान ज्ञात करें। (दशमलव के बाद दो स्थानों तक पूर्णांकित)

- Ans
- 1. ₹82,208.67
 - 2. ₹86,428.57
 - 3. ₹80,000.24
 - 4. ₹84,400.44

Question ID : 26433081722

Status : Not Answered

Chosen Option : --

Q.15 निम्नलिखित में से कौन सी संख्या 16 से विभाज्य नहीं है।

- Ans
- 1. 5168
 - 2. 18016
 - 3. 17776
 - 4. 16826

Question ID : 26433091891

Status : Answered

Chosen Option : 4

Q.16 यदि $A : B = 5 : 8$ और $B : C = 4 : 7$ है, तो $A : B : C$ का मान ज्ञात कीजिए।

- Ans
- 1. 7 : 8 : 12
 - 2. 4 : 9 : 15
 - 3. 5 : 8 : 14
 - 4. 5 : 8 : 10

Question ID : 26433082718

Status : Answered

Chosen Option : 3

Q.17 एक ट्रेन पहले 10 मिनट में 90 km/h की चाल से चलती है और अगले 25 मिनट में 60 km/h की चाल से चलती है और अंतिम 4 मिनट में 15 km/h की चाल से चलती है। ट्रेन की औसत चाल क्या है?

- Ans
- 1. $61\frac{11}{13}$ km/h
 - 2. $63\frac{1}{13}$ km/h
 - 3. $65\frac{5}{13}$ km/h
 - 4. $51\frac{1}{11}$ km/h

Question ID : 26433091504

Status : Answered

Chosen Option : 2

Q.18 एक व्यापारी को किसी वस्तु के अंकित मूल्य पर 20% की छूट देने के बाद 12% का लाभ होता है। यदि कोई छूट न देकर वह वस्तु अंकित मूल्य पर ही बेची जाए तो उसका लाभ प्रतिशत ज्ञात कीजिए।

- Ans
- 1. 38%
 - 2. 40%
 - 3. 42%
 - 4. 35%

Question ID : 26433066311

Status : Answered

Chosen Option : 2

Q.19 X एक वस्तु पर 12 प्रतिशत और 8 प्रतिशत की दो क्रमिक छूट दे रहा था जबकि Y समान वस्तु पर 20 प्रतिशत की फ्लैट छूट दे रहा था। X और Y द्वारा दी गई कुल छूट के बीच का अंतर कितना है?

- Ans
- 1. 0.92 प्रतिशत
 - 2. 0.94 प्रतिशत
 - 3. 0.90 प्रतिशत
 - 4. 0.96 प्रतिशत

Question ID : 264330116731

Status : Answered

Chosen Option : 4

Q.20 निम्नलिखित व्यंजक का मान ज्ञात करें।

$$197 - \left[\frac{1}{9} \{42 + (56 - 8 + 9)\} + 108 \right]$$

- Ans
- 1. 80
 - 2. 23
 - 3. 74
 - 4. 78

Question ID : 26433076321

Status : Answered

Chosen Option : 4

Section : Part-D-English

Q.1 Select the most appropriate meaning of the given idiom.

Wild goose chase

- Ans
- 1. To hunt wild animals
 - 2. Competing fiercely
 - 3. Going on world tour
 - 4. To do something pointless

Question ID : 26433072359

Status : Not Answered

Chosen Option : --

Q.2 Select the most appropriate option that can substitute the underlined segment in the given sentence.

How she managed of escaping from the situation was inexplicable.

- Ans
- 1. managing of escape
 - 2. managed to escape on
 - 3. managed to escape from
 - 4. managed to escape of

Question ID : 26433091963

Status : Not Answered

Chosen Option : --

Q.3 Select the most appropriate ANTONYM of the given word.

Curtail

- Ans
- 1. Deviate
 - 2. Restrict
 - 3. Amplify
 - 4. Seize

Question ID : 26433071973

Status : Not Answered

Chosen Option : --

Q.4 The following sentence has been split into four segments. Identify the segment that contains a grammatical error.

I can't say for sure/ what make him/ think of such an/ outrageously absurd idea.

- Ans
- 1. outrageously absurd idea
 - 2. what make him
 - 3. think of such an
 - 4. I can't say for sure

Question ID : 264330114511
Status : Not Answered
Chosen Option : --

Q.5 The sentence given below has one misspelt word. Spot the INCORRECTLY spelt word and select its correct spelling.

The aproximate value of my property is ₹2 lakh.

- Ans
- 1. Approximate
 - 2. Apraximate
 - 3. Aproxemate
 - 4. Approximate

Question ID : 26433073543
Status : Not Answered
Chosen Option : --

Q.6 Fill in the blank in the following sentence using the ANTONYM of the underlined word. We believe that this incident has been exaggerated so _____ it.

- Ans
- 1. condemn
 - 2. underwrite
 - 3. ignore
 - 4. understate

Question ID : 26433088827
Status : Not Answered
Chosen Option : --

Q.7 Select the most appropriate synonym of the given word.

Auspicious

- Ans
- 1. Antique
 - 2. Fortunate
 - 3. Illogical
 - 4. Despairing

Question ID : 26433073433
Status : Not Answered
Chosen Option : --

Q.8 Select the most appropriate option to fill in the blank.

They enjoyed _____ the sun rising from the hills.

- Ans
- 1. blinking at
 - 2. in seeing
 - 3. watching
 - 4. to visualise

Question ID : 26433073406
Status : Not Answered
Chosen Option : --

Q.9 Select the most appropriate option that can substitute the underlined segment in the given sentence.

Mr. Advani was happy to push the boat out for his daughter's wedding.

- Ans
- 1. avoid risk
 - 2. spend less money
 - 3. spend a lot of money
 - 4. take it easy

Question ID : 26433071894
Status : Not Answered
Chosen Option : --

Q.10 Select the most appropriate option that can substitute the underlined segment in the given sentence.

Over 80% of India's transportation fuel are exchanged.

- Ans
- 1. are vanished
 - 2. is endangered
 - 3. is imported
 - 4. have vanished

Question ID : 26433089799
Status : Not Answered
Chosen Option : --

Q.11 Select the correct pair of words for the blanks in the given sentence.

I will _____ a new purse from the shop on the _____ pass road.

- Ans
- 1. bye; bye
 - 2. buy; by
 - 3. by; bye
 - 4. bye; buy

Question ID : 26433060544
Status : Not Answered
Chosen Option : --

Q.12 Identify the correctly spelt sentence.

- Ans
- 1. I saw the catalogue of D Décor in Capital Mall yesterday.
 - 2. I saw the cattalogue of D Décor in Capital Mall yesterday.
 - 3. I saw the catologue of D Décor in Capital Mall yesterday.
 - 4. I saw the catalogue of D Décor in Capital Mall yesterday.

Question ID : 26433072832

Status : Not Answered

Chosen Option : --

Q.13 Select the most appropriate ANTONYM of the given word.
Outgoing

- Ans
- 1. Introverted
 - 2. Extravagant
 - 3. Eccentric
 - 4. Rational

Question ID : 26433066083

Status : Not Answered

Chosen Option : --

Q.14 Select the most appropriate synonym of the capitalised word in the given sentence.

Isabel listened with extreme respect to this ADMONITION.

- Ans
- 1. Prayer
 - 2. Insult
 - 3. Counsel
 - 4. Council

Question ID : 26433088208

Status : Not Answered

Chosen Option : --

Q.15 Select the most appropriate option to fill in the blank.

As he opened the window the sun _____ directly fell on his face.

- Ans
- 1. raze
 - 2. raise
 - 3. race
 - 4. rays

Question ID : 26433084715

Status : Not Answered

Chosen Option : --

Comprehension:

In the following passage, some words have been deleted. Read the passage carefully and select the most appropriate option to fill in each blank.

Miss Caroline was no more (1)_____ twenty-one. She had bright auburn hair, pink (2)_____, and wore crimson finger-nail polish. She also (3)_____ high-heeled pumps and a red-and-white (4)_____ dress. She looked and smelled (5)_____ a peppermint drop.

SubQuestion No : 16

Q.16 Select the most appropriate option to fill in blank number 1.

- Ans 1. then
 2. than
 3. but
 4. the

Question ID : 26433061540
Status : Not Answered
Chosen Option : --

Comprehension:

In the following passage, some words have been deleted. Read the passage carefully and select the most appropriate option to fill in each blank.

Miss Caroline was no more (1)_____ twenty-one. She had bright auburn hair, pink (2)_____, and wore crimson finger-nail polish. She also (3)_____ high-heeled pumps and a red-and-white (4)_____ dress. She looked and smelled (5)_____ a peppermint drop.

SubQuestion No : 17

Q.17 Select the most appropriate option to fill in blank number 2.

- Ans 1. cheeks
 2. ears
 3. eyes
 4. eyebrows

Question ID : 26433061541
Status : Not Answered
Chosen Option : --

Comprehension:

In the following passage, some words have been deleted. Read the passage carefully and select the most appropriate option to fill in each blank.

Miss Caroline was no more (1) _____ twenty-one. She had bright auburn hair, pink (2) _____, and wore crimson finger-nail polish. She also (3) _____ high-heeled pumps and a red-and-white (4) _____ dress. She looked and smelled (5) _____ a peppermint drop.

SubQuestion No : 18

Q.18 Select the most appropriate option to fill in blank number 3.

- Ans 1. wearing
 2. wore
 3. put
 4. worn

Question ID : 26433061542

Status : Not Answered

Chosen Option : --

Comprehension:

In the following passage, some words have been deleted. Read the passage carefully and select the most appropriate option to fill in each blank.

Miss Caroline was no more (1) _____ twenty-one. She had bright auburn hair, pink (2) _____, and wore crimson finger-nail polish. She also (3) _____ high-heeled pumps and a red-and-white (4) _____ dress. She looked and smelled (5) _____ a peppermint drop.

SubQuestion No : 19

Q.19 Select the most appropriate option to fill in blank number 4.

- Ans 1. striped
 2. stapled
 3. stepped
 4. stripped

Question ID : 26433061543

Status : Not Answered

Chosen Option : --

Comprehension:

In the following passage, some words have been deleted. Read the passage carefully and select the most appropriate option to fill in each blank.

Miss Caroline was no more (1)_____ twenty-one. She had bright auburn hair, pink (2)_____, and wore crimson finger-nail polish. She also (3)_____ high-heeled pumps and a red-and-white (4)_____ dress. She looked and smelled (5)_____ a peppermint drop.

SubQuestion No : 20

Q.20 Select the most appropriate option to fill in blank number 5.

- Ans
- 1. liked
 - 2. as if
 - 3. like
 - 4. as

Question ID : 26433061544

Status : Not Answered

Chosen Option : --

Section : Part-D-Hindi

Q.1 वर्तनी की दृष्टि से दिए गए वाक्य के अशुद्ध भाग का चयन कीजिए-
जब तक परीक्षा का दिन नहीं आया था तब तक उसने एक अक्छर नहीं पढ़ा था।

- Ans
- 1. तब तक उसने एक
 - 2. जब तक परीक्षा का
 - 3. दिन नहीं आया था
 - 4. अक्छर नहीं पढ़ा था।

Question ID : 26433062886

Status : Answered

Chosen Option : 4

Q.2 निम्नलिखित वाक्यों में कौन-सा अशुद्ध वाक्य है?

- Ans
- 1. उन्होंने अफवाह फैलाई।
 - 2. शर्माजी बुलाए हैं।
 - 3. मुझे मत मारो।
 - 4. बुराई से बचो।

Question ID : 26433079227

Status : Answered

Chosen Option : 2

Q.3 निम्नलिखित वाक्य के रिक्त स्थान में सबसे उपयुक्त मुहावरा क्या होगा?
'जेठ की गर्मी _____ जैसी होती है'

- Ans 1. अंगार बरसने जैसी
 2. अंधकार जैसी
 3. ठंडी जैसी
 4. सर्दी जैसी

Question ID : 26433066731
Status : Answered
Chosen Option : 1

Q.4 'इतना आलस्यता ठीक नहीं है।'
उपरोक्त वाक्य का शुद्ध रूप क्या होगा?

- Ans 1. इतना आलस्य ठीक नहीं है।
 2. इतना आलस्यता नहीं है ठीक।
 3. इतनी आलस्यता ठीक नहीं है।
 4. इतनी आलस्य नहीं है ठीक।

Question ID : 26433066993
Status : Answered
Chosen Option : 1

Q.5 निम्नलिखित वाक्यांश के लिए एक सार्थक शब्द चुनिए।
जिसे बुलाया न गया हो

- Ans 1. अदेय
 2. अनाहूत
 3. अमानत
 4. अगवानी

Question ID : 26433062730
Status : Answered
Chosen Option : 2

Q.6 मिश्र वाक्य - 'जब तुम मेरे घर आये थे तब चार बजा था।' निम्नलिखित विकल्पों में से इस वाक्य के लिए कौन सा एक उचित सरल वाक्य होगा?

- Ans 1. घर आये तुम चार बजे मेरे थे।
 2. तुम चार बजे मेरे घर आये थे।
 3. घर चार बजे तुम मेरे आये थे।
 4. चार बजा जब तुम मेरे घर आये थे तब था।

Question ID : 26433062436
Status : Answered
Chosen Option : 2

Q.7 'निर्धन बालिका भूख से _____ थी।' उपरोक्त वाक्य के रिक्त स्थान की पूर्ति उचित शब्द के चयन द्वारा कीजिए।

- Ans
- 1. हकलान
 - 2. आतुर
 - 3. आकुल
 - 4. व्याकुल

Question ID : 26433080900
Status : Answered
Chosen Option : 4

Q.8 'कुछ लाभ पाने की चाह' वाक्यांश के लिए एक शब्द क्या होगा?

- Ans
- 1. पिपासा
 - 2. बुभुक्षा
 - 3. लिप्सा
 - 4. प्रतीक्षा

Question ID : 26433065730
Status : Answered
Chosen Option : 3

Q.9 'जो पहरा देता है' वाक्यांश के लिए सार्थक शब्द क्या होगा?

- Ans
- 1. रक्षक
 - 2. सेवक
 - 3. प्रत्यागत
 - 4. प्रहरी

Question ID : 26433065865
Status : Answered
Chosen Option : 4

Q.10 निम्नलिखित वाक्य के रिक्त स्थान में सबसे उपयुक्त मुहावरा क्या होगा?
'वह बिना कारण ही _____ है'

- Ans
- 1. मक्खी मारता
 - 2. भूत सवार होता
 - 3. बाल-बाल बचना
 - 4. मुँह फुला लेता

Question ID : 26433066725
Status : Answered
Chosen Option : 4

Q.11 निम्नलिखित में से कौन-सा वाक्य संज्ञा के प्रयोग की दृष्टि से शुद्ध है?

- Ans
- 1. सुमन के अनुसार शत्रुत्व अच्छे नहीं है।
 - 2. सुमन के अनुसार शत्रुपण अच्छा नहीं है।
 - 3. सुमन के अनुसार शत्रुता अच्छी नहीं है।
 - 4. सुमन के अनुसार शत्रु अच्छी नहीं है।

Question ID : 26433066957

Status : Answered

Chosen Option : 3

Q.12 प्रशंसनीय का विलोम होगा-

- Ans
- 1. अभिनंदनीय
 - 2. निंदनीय
 - 3. स्तुत्य
 - 4. अनिंदनीय

Question ID : 26433062920

Status : Answered

Chosen Option : 2

Q.13 निम्नलिखित में से कौन सा 'पत्र' का अर्थ नहीं है?

- Ans
- 1. चिट्ठी
 - 2. पत्रिका
 - 3. मुख्य
 - 4. पत्ता

Question ID : 26433080942

Status : Answered

Chosen Option : 3

Q.14 दिए गए विकल्पों में से कौन सा शब्द निम्नलिखित वाक्य में रेखांकित शब्द का पर्यायवाची नहीं है-
बच्चे को बच्चा बनकर ही समझ सकते हैं।

- Ans
- 1. बाल
 - 2. बालक
 - 3. वायु
 - 4. शिशु

Question ID : 26433091337

Status : Answered

Chosen Option : 3

Q.15 निम्नलिखित में से कौन सा शब्द अनेकार्थी शब्द है?

- Ans 1. अंक
 2. दोस्त
 3. कबूतर
 4. परिवार

Question ID : 26433091322

Status : Answered

Chosen Option : 1

Comprehension:

निम्नलिखित गद्यांश में कुछ शब्दों को हटा दिया गया है। दिए गए विकल्पों की सहायता से रिक्त स्थानों की पूर्ति कीजिए। प्रत्येक संख्या के लिए सबसे उपयुक्त विकल्प का चयन करें।

हम सभी को इस दुनिया में सफल होने के लिए हर जगह पर 1. _____ देनी पड़ती है। परीक्षाओं की 2. _____ बहुत पुरानी है। जीवन के लगभग 3. _____ में हम परीक्षाओं का सामना करते हैं। परीक्षाएं मौखिक या लिखित हो सकती हैं। हमलोग अपने विद्यालयों और महाविद्यालयों की परीक्षाओं में बैठते हैं। हमलोग अच्छी 4. _____ पाने के लिए भी परीक्षाओं में बैठते हैं। जैसे-जैसे हम ऊंची कक्षाओं में पहुंचते हैं, परीक्षाओं की 5. _____ का स्तर भी बढ़ जाता है।

SubQuestion No : 16

Q.16 रिक्त स्थान 1 की पूर्ति के लिए सबसे उपयुक्त विकल्प का चयन करें।

- Ans 1. आधार कार्ड
 2. परीक्षा
 3. पैसे
 4. रिश्तत

Question ID : 264330110927

Status : Answered

Chosen Option : 2

Comprehension:

निम्नलिखित गद्यांश में कुछ शब्दों को हटा दिया गया है। दिए गए विकल्पों की सहायता से रिक्त स्थानों की पूर्ति कीजिए। प्रत्येक संख्या के लिए सबसे उपयुक्त विकल्प का चयन करें।

हम सभी को इस दुनिया में सफल होने के लिए हर जगह पर 1. _____ देनी पड़ती है। परीक्षाओं की 2. _____ बहुत पुरानी है। जीवन के लगभग 3. _____ में हम परीक्षाओं का सामना करते हैं। परीक्षाएं मौखिक या लिखित हो सकती हैं। हमलोग अपने विद्यालयों और महाविद्यालयों की परीक्षाओं में बैठते हैं। हमलोग अच्छी 4. _____ पाने के लिए भी परीक्षाओं में बैठते हैं। जैसे-जैसे हम ऊंची कक्षाओं में पहुंचते हैं, परीक्षाओं की 5. _____ का स्तर भी बढ़ जाता है।

SubQuestion No : 17

Q.17 रिक्त स्थान 2 की पूर्ति के लिए सबसे उपयुक्त विकल्प का चयन करें।

- Ans 1. मामला
 2. मनसा
 3. धारणा
 4. अभिप्राय

Question ID : 264330110928

Status : Answered

Chosen Option : 3

Comprehension:

निम्नलिखित गद्यांश में कुछ शब्दों को हटा दिया गया है। दिए गए विकल्पों की सहायता से रिक्त स्थानों की पूर्ति कीजिए। प्रत्येक संख्या के लिए सबसे उपयुक्त विकल्प का चयन करें।
हम सभी को इस दुनिया में सफल होने के लिए हर जगह पर 1. _____ देनी पड़ती है। परीक्षाओं की 2. _____ बहुत पुरानी है। जीवन के लगभग 3. _____ में हम परीक्षाओं का सामना करते हैं। परीक्षाएं मौखिक या लिखित हो सकती हैं। हमलोग अपने विद्यालयों और महाविद्यालयों की परीक्षाओं में बैठते हैं। हमलोग अच्छी 4. _____ पाने के लिए भी परीक्षाओं में बैठते हैं। जैसे-जैसे हम ऊंची कक्षाओं में पहुंचते हैं, परीक्षाओं की 5. _____ का स्तर भी बढ़ जाता है।

SubQuestion No : 18

Q.18 रिक्त स्थान 3 की पूर्ति के लिए सबसे उपयुक्त विकल्प का चयन करें।

- Ans 1. प्राथमिक क्षेत्र
 2. हर क्षेत्र
 3. अपने क्षेत्र
 4. कुछ क्षेत्र

Question ID : 264330110929

Status : Answered

Chosen Option : 2

Comprehension:

निम्नलिखित गद्यांश में कुछ शब्दों को हटा दिया गया है। दिए गए विकल्पों की सहायता से रिक्त स्थानों की पूर्ति कीजिए। प्रत्येक संख्या के लिए सबसे उपयुक्त विकल्प का चयन करें।
हम सभी को इस दुनिया में सफल होने के लिए हर जगह पर 1. _____ देनी पड़ती है। परीक्षाओं की 2. _____ बहुत पुरानी है। जीवन के लगभग 3. _____ में हम परीक्षाओं का सामना करते हैं। परीक्षाएं मौखिक या लिखित हो सकती हैं। हमलोग अपने विद्यालयों और महाविद्यालयों की परीक्षाओं में बैठते हैं। हमलोग अच्छी 4. _____ पाने के लिए भी परीक्षाओं में बैठते हैं। जैसे-जैसे हम ऊंची कक्षाओं में पहुंचते हैं, परीक्षाओं की 5. _____ का स्तर भी बढ़ जाता है।

SubQuestion No : 19

Q.19 रिक्त स्थान 4 की पूर्ति के लिए सबसे उपयुक्त विकल्प का चयन करें।

- Ans 1. नौकरी
 2. घर
 3. परिवार
 4. गाड़ी

Question ID : 264330110930

Status : Answered

Chosen Option : 1

Comprehension:

निम्नलिखित गद्यांश में कुछ शब्दों को हटा दिया गया है। दिए गए विकल्पों की सहायता से रिक्त स्थानों की पूर्ति कीजिए। प्रत्येक संख्या के लिए सबसे उपयुक्त विकल्प का चयन करें।

हम सभी को इस दुनिया में सफल होने के लिए हर जगह पर 1. _____ देनी पड़ती है। परीक्षाओं की 2. _____ बहुत पुरानी है। जीवन के लगभग 3. _____ में हम परीक्षाओं का सामना करते हैं। परीक्षाएं मौखिक या लिखित हो सकती हैं। हमलोग अपने विद्यालयों और महाविद्यालयों की परीक्षाओं में बैठते हैं। हमलोग अच्छी 4. _____ पाने के लिए भी परीक्षाओं में बैठते हैं। जैसे-जैसे हम ऊंची कक्षाओं में पहुंचते हैं, परीक्षाओं की 5. _____ का स्तर भी बढ़ जाता है।

SubQuestion No : 20

Q.20 रिक्त स्थान 5 की पूर्ति के लिए सबसे उपयुक्त विकल्प का चयन करें।

- Ans
- 1. सुगमता
 - 2. कठिनता
 - 3. सरलता
 - 4. सहजता

Question ID : 264330110931

Status : Answered

Chosen Option : 2

KD Job Updates

Constable GD in CAPFs SSF Rifleman GD in Assam Rifles and Sepoy in NCB Examination 2022

Roll Number	KD Job Updates
Candidate Name	KD Job Updates
Venue Name	iON Digital Zone iDZ4 Patliputra
Exam Date	13/01/2023
Exam Time	9:00 AM - 10:00 AM
Subject	Constable GD Examination 2022

Section : Part-A-General Intelligence and Reasoning

Q.1 नीचे दिए गए समीकरण को गणितीय रूप से सही बनाने के लिए किन दो गणितीय चिह्नों को परस्पर बदलना चाहिए?

$$45 + 3 \div 27 - 9 \times 18 = 14$$

Ans 1. ÷ और ×

2. ÷ और +

3. × और +

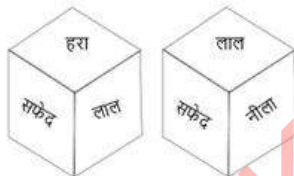
4. + और -

Question ID : 264330114188

Status : Answered

Chosen Option : 3

Q.2 एक ही पासे की दो अलग-अलग स्थितियों को दर्शाया गया है जिस पर लाल, नीला, गुलाबी, हरा, सफेद और काला रंग है। 'हरा' दर्शाने वाले फलक के विपरीत फलक पर स्थित रंग ज्ञात कीजिए।



Ans 1. काला

2. नीला

3. गुलाबी

4. सफेद

Question ID : 26433085517

Status : Answered

Chosen Option : 2

Q.3 एक निश्चित कूट भाषा में,
 'A + B' का अर्थ है कि 'A, B की माता है',
 'A - B' का अर्थ है कि 'A, B का पिता है',
 'A x B' का अर्थ है कि 'A, B का भाई है',
 'A & B' का अर्थ है कि 'A, B का पुत्र है' और
 'A @ B' का अर्थ है कि 'A, B की बहन है'।
 यदि N x P @ Q - L x M & G है, तो G का N से क्या संबंध है?

- Ans
- 1. पत्नी
 - 2. भाभी
 - 3. माता
 - 4. बहन

Question ID : 26433070369
 Status : Answered
 Chosen Option : 2

Q.4 दिए गए संयोजन की सही दर्पण छवि का चयन करें जब दर्पण को 'PQ' पर रखा जाता है जैसा कि नीचे दिखाया गया है।

\OITR#36789@

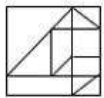
P
|
Q

- Ans
- 1. @e87ae#ЯTIO/
 - 2. @8e7ae#ЯTIO/
 - 3. @8e7ae#ЯTIO\
 - 4. @e87ae#ЯTIO\

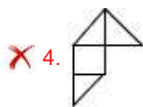
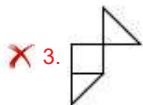
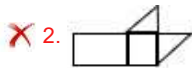
Question ID : 26433082747
 Status : Answered
 Chosen Option : 1

Q.5 उस विकल्प आकृति का चयन करें जो दी गई आकृति में अंतर्निहित है (घुमाने की

अनुमति नहीं है)।



Ans



Question ID : 26433069487

Status : Answered

Chosen Option : 1

Q.6 दिए गए विकल्पों में से उस अक्षर-समूह का चयन कीजिए जो निम्न श्रृंखला में प्रश्न-चिह्न (?) के स्थान पर आ सकता है।

TDKV, MWOZ, FPSD, ? , RBAL

Ans ✗ 1. YUXL

✗ 2. YDHX

✗ 3. TPSJ

✓ 4. YIWH

Question ID : 26433074750

Status : Answered

Chosen Option : 4

Q.7 निम्नलिखित में से कौन-सा अक्षर नीचे दी गई अक्षर श्रृंखला में प्रश्न-चिह्न (?) के स्थान पर आकर श्रृंखला को पूर्ण करेगा?

D, B, X, R, J, ?

Ans ✓ 1. Z

✗ 2. Y

✗ 3. X

✗ 4. A

Question ID : 26433067290

Status : Answered

Chosen Option : 3

Q.8 किस विकल्प में निम्नलिखित शब्दों का वह क्रम दिया गया है, जिस क्रम में वे अंग्रेजी शब्दकोश में आते हैं?

1. Tasty
2. Tackle
3. Tamarind
4. Tadpole
5. Tagline

- Ans
- 1. 2,4,3,5,1
 - 2. 2,4,5,3,1
 - 3. 4,3,2,5,1
 - 4. 4,3,2,1,5

Question ID : 26433069276

Status : Answered

Chosen Option : 2

Q.9 एक कूट भाषा में 'DEVOTE' को '71' लिखा जाता है और 'DIALECT' को '54' लिखा जाता है। उसी भाषा में 'DIESEL' को कैसे लिखा जाएगा?

- Ans
- 1. 54
 - 2. 49
 - 3. 53
 - 4. 47

Question ID : 26433068934

Status : Answered

Chosen Option : 1

Q.10 निम्नलिखित में से कौन-सी संख्या दी गई श्रृंखला में प्रश्नवाचक चिह्न (?) का स्थान लेगी?
2, ?, 10, 14, 18, 22, 26, 30

- Ans
- 1. 7
 - 2. 6
 - 3. 5
 - 4. 8

Question ID : 26433069054

Status : Answered

Chosen Option : 2

Q.11 नीचे दिए गए समीकरण को सही बनाने के लिए किन दो चिन्हों को गणितीय रूप से परस्पर बदलना चाहिए?

$$35 + 21 - 168 \div 28 \times 7 = 154$$

- Ans
- 1. - और +
 - 2. + और ÷
 - 3. ÷ और -
 - 4. × और -

Question ID : 264330117522

Status : Answered

Chosen Option : 4

Q.12 निम्नलिखित में से कौन-सी संख्या दी गई श्रृंखला में प्रश्न-चिह्न (?) को प्रतिस्थापित करेगी?
40, 40, ?, 58, 76, 100, 130

- Ans 1. 55
 2. 46
 3. 70
 4. 45

Question ID : 26433069402
 Status : Answered
 Chosen Option : 2

Q.13 यदि श्रृंखला जारी रखनी है तो कौन-सी आकृति प्रश्न चिह्न (?) के स्थान पर

आएगी?

O	B	K	L	
B L A C K	O C L A S	L O C S A	K S O C B	?
S	K	B	A	

Ans

1.

A
B K S O C
L
2.

A
O K S B C
L
3.

A
S O K B C
L
4.

A
S O C B K
L

Question ID : 26433076628
 Status : Answered
 Chosen Option : 1

Q.14 छः व्यक्ति J, K, L, M, N और O एक सीधी पंक्ति में उत्तर की ओर मुख करके बैठे हैं। O और N पंक्ति के अंतिम सिरों पर बैठे हैं। K के दाईं ओर केवल तीन व्यक्ति हैं, और J के बाईं ओर केवल तीन व्यक्ति हैं। O, K के बाईं ओर दूसरे स्थान पर बैठा है। M, J और N के मध्य में बैठा है। O और K के मध्य में कौन बैठा है?

- Ans 1. L
 2. M
 3. N
 4. J

Question ID : 26433056045
Status : Answered
Chosen Option : 1

Q.15 छः विद्यार्थी एक वृत्ताकार मेज के परितः मेज के केंद्र की ओर मुख करके बैठे हैं। मार्शल, सैड़ा के बाईं ओर दूसरे स्थान पर बैठा है। कैरल, सैड़ा के दाईं ओर दूसरे स्थान पर बैठी है। शशि, सैड़ा और कैरल के ठीक बगल में है। साहिल, सैड़ा के बाईं ओर तीसरे स्थान पर बैठा है। जेड, कैरल के बाईं ओर तीसरे स्थान पर बैठा है। मार्शल और कैरल के बीच में कौन बैठा है?

- Ans 1. जेड
 2. शशि
 3. साहिल
 4. सैड़ा

Question ID : 26433081781
Status : Answered
Chosen Option : 3

Q.16 उस विकल्प का चयन करें, जो तीसरे शब्द से उसी प्रकार संबंधित है, जिस प्रकार दूसरा शब्द पहले शब्द से संबंधित है।
(शब्दों को अर्थपूर्ण शब्दों के रूप में माना जाना चाहिए और इन्हें शब्द में अक्षरों की संख्या / व्यंजनों की संख्या / स्वरों की संख्या के आधार पर एक दूसरे से संबद्ध नहीं किया जाना चाहिए।)
कविता : कवि :: जूते : ?

- Ans 1. चिकित्सक
 2. मोची
 3. बावरची
 4. बढ़ड़

Question ID : 26433079471
Status : Answered
Chosen Option : 2

Q.17 उस विकल्प का चयन करें जो चौथे पद से उसी प्रकार संबंधित है, जिस प्रकार पहला पद दूसरे पद से और पांचवां पद छठे पद से संबंधित है।
18 : 30 :: ? : 66 :: 54 : 102

- Ans 1. 36
 2. 42
 3. 46
 4. 38

Question ID : 26433069085
Status : Answered
Chosen Option : 1

Q.18 किसी निश्चित कोड भाषा में BANTER को 'EZQSHQ' के रूप में लिखा गया है और HAVEN को 'KZYDQ' के रूप में लिखा गया है। उसी कोड भाषा में ADVENT को किस प्रकार लिखा जाएगा?

- Ans
- 1. DBYCOS
 - 2. DCZEPU
 - 3. DBYDPS
 - 4. DCYDQS

Question ID : 26433076683
Status : Answered
Chosen Option : 3

Q.19 'प्रवाह' का जो संबंध 'स्थिर' से है, वही संबंध 'पतन' का '_____' से है।
(शब्दों को अर्थपूर्ण शब्दों के रूप में मानना है और उन्हें शब्द में अक्षरों/व्यंजनों/स्वरों की संख्या के आधार पर एक-दूसरे से संबंधित नहीं करना है।)

- Ans
- 1. उत्थान
 - 2. बाज़ार
 - 3. गिरना
 - 4. स्थिर

Question ID : 26433057753
Status : Answered
Chosen Option : 1

Q.20 तीन कथनों के बाद तीन निष्कर्ष I, II और III दिए गए हैं। कथनों को सत्य मानते हुए, भले ही वे सामान्य रूप से ज्ञात तथ्यों से भिन्न प्रतीत होते हों, निर्धारित करें कि कौन-सा/से निष्कर्ष, कथनों का तार्किक रूप से अनुसरण करता है/करते हैं।

कथन:

सभी ट्यूब पाइप हैं।
सभी स्विच पाइप हैं।
सभी पाइप बोर्ड हैं।

निष्कर्ष:

I. सभी स्विच बोर्ड हैं।
II. सभी बोर्ड ट्यूब हैं।
III. कुछ बोर्ड स्विच हैं।

- Ans
- 1. केवल निष्कर्ष I और II अनुसरण करते हैं
 - 2. केवल निष्कर्ष II और III अनुसरण करते हैं
 - 3. केवल निष्कर्ष I और III अनुसरण करते हैं
 - 4. सभी निष्कर्ष अनुसरण करते हैं

Question ID : 26433082302
Status : Answered
Chosen Option : 3

Q.1 _____ के पास भारत में माइक्रोफाइनेंस को विनियमित करने का अधिकार है।

- Ans
- 1. भारतीय स्टेट बैंक
 - 2. यूनियन बैंक ऑफ इंडिया
 - 3. भारतीय ग्रामीण बैंक
 - 4. भारतीय रिजर्व बैंक

Question ID : 264330115309
Status : Answered
Chosen Option : 1

Q.2 नवंबर 2022 तक की स्थिति के अनुसार, निम्नलिखित में से कौन उत्तर प्रदेश, भारत के राज्यपाल हैं?

- Ans
- 1. सुदर्शन अग्रवाल
 - 2. आरिफ मोहम्मद खान
 - 3. राम नाईक
 - 4. आनंदीबेन पटेल

Question ID : 264330114907
Status : Answered
Chosen Option : 3

Q.3 एशियाई खेल 2018 का आदर्श वाक्य (मोटो) _____ था।

- Ans
- 1. प्ले फॉर पीस, प्रोग्रेस एंड प्रोस्पेरिटी
 - 2. एवर ऑनवर्ड
 - 3. डाइवर्सिटी शाइन्स हियर
 - 4. एनर्जी ऑफ एशिया

Question ID : 264330115959
Status : Answered
Chosen Option : 4

Q.4 भोजन पकाने में प्रयुक्त ऊर्जा की पहचान करें।

- Ans
- 1. विद्युत ऊर्जा
 - 2. यांत्रिक ऊर्जा
 - 3. पवन ऊर्जा
 - 4. रासायनिक ऊर्जा

Question ID : 26433087837
Status : Answered
Chosen Option : 4

Q.5 इनमें से कौन-सा भूकंपीय तरंगों का एक प्रकार है?

- Ans
- 1. B-तरंग
 - 2. P-तरंग
 - 3. D-तरंग
 - 4. C-तरंग

Question ID : 264330115992
Status : Answered
Chosen Option : 2

Q.6 निम्नलिखित में से किस कलाकार को सोवियत लैंड नेहरू पुरस्कार प्राप्त हुआ है?

- Ans 1. पंडित बिरजू महाराज
 2. महबूब सुभानी
 3. कृष्णा एला
 4. तिरुविदैमरुदुर कुप्पिया कल्याणसुंदरम

Question ID : 264330115852
Status : Answered
Chosen Option : 4

Q.7 निम्नलिखित में से कौन मौर्य साम्राज्य का अंतिम राजा था?

- Ans 1. चंद्रगुप्त
 2. बृहद्रथ
 3. बिंदुसार
 4. अशोक

Question ID : 264330115445
Status : Answered
Chosen Option : 2

Q.8 निम्नलिखित में से कौन सा लोक नृत्य जम्मू और कश्मीर से संबंधित है?

- Ans 1. भवाई
 2. होजागिरी
 3. जवारा
 4. कुद

Question ID : 26433070840
Status : Answered
Chosen Option : 4

Q.9 भारत के सर्वोच्च न्यायालय का उद्घाटन कब किया गया था?

- Ans 1. 26 जनवरी 1948
 2. 28 जनवरी 1950
 3. 26 जनवरी 1952
 4. 28 जनवरी 1952

Question ID : 26433074907
Status : Answered
Chosen Option : 2

Q.10 निम्न में से क्या वर्ष 1950 में अपनाए गए मूल भारतीय संविधान का हिस्सा नहीं था?

- Ans 1. मूल कर्तव्य
 2. आपातकालीन प्रावधान
 3. मूल अधिकार
 4. राज्य के नीति निर्देशक सिद्धांत

Question ID : 264330115627
Status : Answered
Chosen Option : 1

Q.11 मध्य भारत में बस्तर विद्रोह _____ में हुआ था।

- Ans
- 1. 1905
 - 2. 1910
 - 3. 1918
 - 4. 1915

Question ID : 264330115716
Status : Not Answered
Chosen Option : --

Q.12 पवन हंस हेलीकॉप्टर्स लिमिटेड अपने अपतटीय संचालन में किसे हेलीकॉप्टर सेवाएं प्रदान करता है?

- Ans
- 1. हिंदुस्तान पेट्रोलियम कॉर्पोरेशन लिमिटेड
 - 2. ऑयल इंडिया और रिलायंस इंडस्ट्रीज
 - 3. तैल एवं प्राकृतिक गैस निगम
 - 4. इंडियन ऑयल

Question ID : 264330115556
Status : Not Answered
Chosen Option : --

Q.13 _____ पंचवर्षीय योजना "स्थिरता के साथ विकास" के विशिष्ट उद्देश्य के साथ शुरू की गई थी।

- Ans
- 1. दूसरी
 - 2. चौथी
 - 3. पहली
 - 4. आठवीं

Question ID : 264330115373
Status : Not Answered
Chosen Option : --

Q.14 भारत की द्वितीय पंचवर्षीय योजना की समय सीमा क्या है?

- Ans
- 1. 1951 - 56
 - 2. 1956 - 61
 - 3. 1948 - 53
 - 4. 1957 - 62

Question ID : 26433054611
Status : Answered
Chosen Option : 2

Q.15 सेकेरनेई, नागालैंड का एक प्रमुख त्यौहार है, यह एक _____ दिवसीय उत्सव है, जो शुद्धि और पवित्रता का प्रतीक है।

- Ans 1. 8-10
 2. 7-8
 3. 10-15
 4. 9-13

Question ID : 264330115093
Status : Answered
Chosen Option : 1

Q.16 भारतीय ओलंपिक संघ का गठन किस वर्ष हुआ था?

- Ans 1. 1943
 2. 1934
 3. 1928
 4. 1927

Question ID : 264330116266
Status : Answered
Chosen Option : 3

Q.17 अप्रैल 2022 में, निम्नलिखित में से कौन सी प्रसिद्ध बॉलीवुड हस्ती, आसनसोल, पश्चिम बंगाल से उपचुनाव जीतकर सांसद बना/बनी?

- Ans 1. बाबुल सुप्रियो
 2. सोनू सूद
 3. जया बच्चन
 4. शत्रुघ्न सिन्हा

Question ID : 264330115012
Status : Answered
Chosen Option : 4

Q.18 यदि मृदा में सूक्ष्म कणों का अनुपात अपेक्षाकृत अधिक होता है, तो इसे _____ मृदा कहा जाता है।

- Ans 1. मृण्मय
 2. जलीय
 3. दुमटी
 4. बलुई

Question ID : 264330115194
Status : Answered
Chosen Option : 1

Q.19 किस योजना के तहत 10,000 रुपए तक की ओवरड्राफ्ट (OD) सुविधा, पात्र खाताधारकों के लिए उपलब्ध है।

- Ans
- 1. प्रधानमंत्री सुरक्षा बीमा योजना
 - 2. प्रधानमंत्री जन-धन योजना
 - 3. स्किल इंडिया मिशन
 - 4. प्रधानमंत्री कौशल विकास योजना

Question ID : 264330116198
Status : Not Answered
Chosen Option : --

Q.20 जनगणना रिपोर्ट 2011 के अनुसार किस भारतीय राज्य की साक्षरता दर दूसरी सबसे कम है?

- Ans
- 1. राजस्थान
 - 2. अरुणाचल प्रदेश
 - 3. हिमाचल प्रदेश
 - 4. मिज़ोरम

Question ID : 264330116061
Status : Answered
Chosen Option : 2

Section : Part-C-Elementary Mathematics

Q.1 किसी वस्तु का अंकित मूल्य उसके क्रय मूल्य से 25% अधिक है। यदि इसे 6.4% के लाभ के साथ ₹450 में बेचा जाता है, तो छूट प्रतिशत _____ के निकटतम है।

- Ans
- 1. 15%
 - 2. 13%
 - 3. 12%
 - 4. 16%

Question ID : 26433080109
Status : Not Answered
Chosen Option : --

Q.2 3,5,9 का चतुर्थानुपाती _____ है।

- Ans
- 1. 135
 - 2. 45
 - 3. 27
 - 4. 15

Question ID : 26433073023
Status : Answered
Chosen Option : 4

Q.3 0.45235 को भिन्न के रूप में व्यक्त कीजिए।

- Ans
- ✓ 1. $\frac{4519}{9990}$
- ✗ 2. $\frac{14190}{9990}$
- ✗ 3. $\frac{1419}{99900}$
- ✗ 4. $\frac{1491}{9990}$

Question ID : 26433092020
Status : Answered
Chosen Option : 1

Q.4 दो पार्टियों द्वारा लड़े गए एक चुनाव में, पार्टी A ने पार्टी B से कुल मतों का 16 प्रतिशत अधिक प्राप्त किया। यदि पार्टी B को 25200 मत मिले और कोई अमान्य मत नहीं हैं, तो पार्टी B कितने मतों से चुनाव हार गई?

- Ans
- ✗ 1. 1800
- ✗ 2. 3600
- ✗ 3. 5400
- ✓ 4. 9600

Question ID : 264330116802
Status : Answered
Chosen Option : 4

Q.5 यदि कोई दुकानदार 10% की छूट देता है, तो उसे 10% का लाभ होता है। समान स्थिति में, यदि वह 25% की छूट प्रदान करता है, तो उसे कितने प्रतिशत लाभ या हानि होगी?

- Ans
- ✓ 1. 8.33% हानि
- ✗ 2. 25% हानि
- ✗ 3. 20% लाभ
- ✗ 4. 25% लाभ

Question ID : 26433076035
Status : Not Answered
Chosen Option : --

Q.6 पहली तथा दूसरी मिश्रधातु में, तांबे और सोने का अनुपात, क्रमशः 3 : 4 और 2 : 5 है। पहली मिश्र धातु के 14 kg को दूसरी मिश्रधातु के 21 kg के साथ मिलाया जाता है। तो नए मिश्रण में क्रमशः तांबे और सोने का अनुपात ज्ञात कीजिए।

Ans 1. 23 : 12

2. 12 : 23

3. 5 : 9

4. 17 : 13

Question ID : 26433076030

Status : Not Answered

Chosen Option : --

Q.7 सोहन ने 20% वार्षिक दर से चक्रवृद्धि ब्याज पर धन उधार लिया, ब्याज का संयोजन वार्षिक रूप से किया गया था और उसने इसे तीन समान किश्तों में चुकाया, प्रत्येक किश्त का भुगतान प्रत्येक वर्ष के अंत में किया जाना था। यदि प्रत्येक किश्त ₹1,250 थी, तो सोहन द्वारा उधार ली गई राशि (निकटतम पूर्णांक मान) _____ थी।

Ans 1. ₹2,633

2. ₹4,860

3. ₹2,466

4. ₹4,660

Question ID : 26433090305

Status : Not Answered

Chosen Option : --

Q.8 7 प्राकृत संख्याओं का औसत 70 है। उनमें से छह संख्याएँ 32, 69, 72, 65, 79, 48 हैं। सातवीं संख्या क्या है?

Ans 1. 125

2. 120

3. 130

4. 135

Question ID : 26433080285

Status : Answered

Chosen Option : 1

Q.9 एक फुटकर विक्रेता ने कुछ सामान ₹1,280 में खरीदा और उसने एक तिहाई सामान 15% हानि पर बेच दिया। शेष को कितने प्रतिशत लाभ पर बेचा जाए, ताकि पूरे लेन-देन पर 15% लाभ मिले?

Ans 1. 30 प्रतिशत

2. 28 प्रतिशत

3. 32 प्रतिशत

4. 31 प्रतिशत

Question ID : 26433080166

Status : Not Answered

Chosen Option : --

Q.10 एक कार चालक 70 km/h की चाल से कार चला रहा है और उससे 35 m आगे एक बस चल रही है। 15 सेकंड के बाद, बस उससे 40 मीटर पीछे रह जाती है। बस की चाल ज्ञात कीजिए।

- Ans
- 1. 64 km/h
 - 2. 52 km/h
 - 3. 65 km/h
 - 4. 78 km/h

Question ID : 26433076198
Status : Not Answered
Chosen Option : --

Q.11 एक समकोण त्रिभुज का क्षेत्रफल 42 cm^2 है। यदि इसका लंब 10 cm है, तो इसके आधार की लंबाई ज्ञात करें।

- Ans
- 1. 4.2 cm
 - 2. 8.0 cm
 - 3. 8.4 cm
 - 4. 4.8 cm

Question ID : 26433075278
Status : Answered
Chosen Option : 3

Q.12 एक ठोस गोले को दो बराबर भागों में काटा जाता है। प्रत्येक गोलार्द्ध के कुल पृष्ठीय क्षेत्रफल का ठोस गोले के कुल पृष्ठीय क्षेत्रफल से अनुपात कितना है?

- Ans
- 1. 2:3
 - 2. 3:5
 - 3. 3:4
 - 4. 1:2

Question ID : 26433075479
Status : Answered
Chosen Option : 3

Q.13 एक सोफा-सेट 10%, 5% और 2% की तीन क्रमिक छूटों के साथ बिक्री के लिए उपलब्ध है। यदि इसका अंकित मूल्य ₹18,000 है, तो सोफा सेट का शुद्ध विक्रय मूल्य ज्ञात करें।

- Ans
- 1. ₹16,084.00
 - 2. ₹17,230.00
 - 3. ₹15,082.20
 - 4. ₹16,920.28

Question ID : 26433076327
Status : Answered
Chosen Option : 3

Q.14 P एक कार्य को 200 दिनों में कर सकता है। Q और R समान कार्य को 100 दिनों में कर सकते हैं। P, Q, तथा R ने एक साथ कार्य शुरू किया तथा उन्होंने 40 दिनों तक एक साथ काम किया और फिर Q ने काम छोड़ दिया तथा P और R ने साथ मिलकर शेष कार्य को 40 दिनों में पूरा किया। ज्ञात करें कि Q अकेले कितने दिनों में कुल कार्य कर सकता है।

- Ans 1. 200 दिन
 2. 180 दिन
 3. 210 दिन
 4. 160 दिन

Question ID : 264330116882
Status : Answered
Chosen Option : 1

Q.15 256 और 484 का मध्यानुपाती ज्ञात कीजिए।

- Ans 1. 352
 2. 360
 3. 552
 4. 323

Question ID : 26433081025
Status : Answered
Chosen Option : 1

Q.16 शांत जल में एक नाव की चाल 9 km/h है, जबकि धारा की चाल 1.5 km/h है। एक आदमी नाव से 105 km दूर स्थित एक स्थान पर जाता है, और फिर अपने प्रारंभिक स्थान पर लौट आता है। उसके द्वारा लिया गया कुल समय ज्ञात कीजिए।

- Ans 1. 24 घंटे
 2. 19 घंटे
 3. 20.5 घंटे
 4. 22 घंटे

Question ID : 26433065296
Status : Answered
Chosen Option : 1

Q.17 A और B किसी कार्य को क्रमशः 18 दिन और 12 दिन में पूरा कर सकते हैं। काम पूरा होने तक वे बारी-बारी से एक-एक दिन काम करते हैं। पहले दिन A से शुरू करते हुए कार्य को पूरा करने में A और B को कितना समय लगेगा (दिनों में)?

- Ans 1. 15 दिन
 2. 14 दिन
 3. 14.5 दिन
 4. 16 दिन

Question ID : 26433075773
Status : Answered
Chosen Option : 3

Q.18 एक निश्चित धनराशि पर 2 वर्ष के लिए 4% वार्षिक की दर से साधारण ब्याज और वार्षिक रूप से चक्रवृद्धि होने वाले चक्रवृद्धि ब्याज के बीच का अंतर Rs.80 है। तो बताइए कि धनराशि (Rs. में) कितनी है?

- Ans 1. 45,000
 2. 50,000
 3. 60,000
 4. 70,000

Question ID : 26433075240
Status : Answered
Chosen Option : 2

Q.19 A और B के बीच एक चुनाव में, B ने 16,200 मत प्राप्त किए और A को कुल मतों के 8% से हराया। यदि कोई अवैध मत नहीं है, तो A और B के मतों में कितना अंतर है?

- Ans 1. 2500
 2. 2200
 3. 2300
 4. 2400

Question ID : 26433085435
Status : Answered
Chosen Option : 2

Q.20 वह अधिकतम संभावित लंबाई ज्ञात करें, जिसका उपयोग 8 m 75 cm, 1.75 m और 12 m 20 cm लंबाई को सटीक रूप से मापने के लिए किया जा सकता है।

- Ans 1. 15 cm
 2. 20 cm
 3. 10 cm
 4. 5 cm

Question ID : 26433081467
Status : Answered
Chosen Option : 4

Section : Part-D-English

Q.1 Select the most appropriate meaning of the given idiom.

Blow one's own trumpet

- Ans 1. To praise oneself
 2. To disgrace oneself
 3. To be very keen
 4. To be confused

Question ID : 26433074057
Status : Not Answered
Chosen Option : --

Q.2 Select the INCORRECTLY spelt word.

- Ans 1. **Technike**
 2. **Garrulous**
 3. **Simultaneous**
 4. **Reluctant**

Question ID : **26433073730**
Status : **Not Answered**
Chosen Option : --

Q.3 Select the most appropriate ANTONYM of the word given in brackets to fill in the blank.

The doctor had to go with operation as Raj's condition was very _____ (comical).

- Ans 1. **curious**
 2. **serious**
 3. **prone**
 4. **peculiar**

Question ID : **26433089749**
Status : **Not Answered**
Chosen Option : --

Q.4 Select the most appropriate option to fill in the blank.

The manager decided to _____ the meeting, as many of the members were not present.

- Ans 1. **call on**
 2. **call off**
 3. **cut down**
 4. **carry on**

Question ID : **26433073408**
Status : **Not Answered**
Chosen Option : --

Q.5 Select the most appropriate synonym of the given word.

Dazzling

- Ans 1. **Drizzly**
 2. **Murky**
 3. **Brilliant**
 4. **Dull**

Question ID : **26433073435**
Status : **Not Answered**
Chosen Option : --

Q.6 Select the word segment that substitutes (replaces) the bracketed word segment correctly and completes the sentence meaningfully.
Nishtha writes very well, (didn't she)?

- Ans
- 1. isn't it
 - 2. doesn't it
 - 3. doesn't she
 - 4. wasn't it

Question ID : 26433088797
Status : Not Answered
Chosen Option : --

Q.7 Select the INCORRECTLY spelt word.

- Ans
- 1. Supercede
 - 2. Etiquette
 - 3. Flimsy
 - 4. Intercede

Question ID : 26433074001
Status : Not Answered
Chosen Option : --

Q.8 Select the most appropriate synonym of the given word to fill in the blank in the sentence.

Yields

Binu's land _____ high quality of wheat and grams.

- Ans
- 1. produces
 - 2. subdues
 - 3. touches
 - 4. meets

Question ID : 26433060551
Status : Not Answered
Chosen Option : --

Q.9 Select the most appropriate ANTONYM of the given word.

Brittle

- Ans
- 1. Resilient
 - 2. Attractive
 - 3. Delicate
 - 4. Bitter

Question ID : 26433071975
Status : Not Answered
Chosen Option : --

Q.10 The following sentence has been split into four segments. Identify the segment that contains a grammatical error.
While my wife / cooked the food, / I writing / a book.

- Ans
- 1. I writing
 - 2. While my wife
 - 3. cooked the food,
 - 4. a book

Question ID : 26433086451
Status : Not Answered
Chosen Option : --

Q.11 Select the most appropriate option that can substitute the underlined segment in the given sentence.

VPN allows us to use the internet anonymously to value our safety and our identity.

- Ans
- 1. to rationalise our safety
 - 2. to derogate our safety
 - 3. to improve our safety
 - 4. to ensure our safety

Question ID : 26433096157
Status : Not Answered
Chosen Option : --

Q.12 Select the most appropriate ANTONYM of the given word.

Applaud

- Ans
- 1. Denounce
 - 2. Magnify
 - 3. Commend
 - 4. Approve

Question ID : 26433072670
Status : Not Answered
Chosen Option : --

Q.13 Select the most appropriate synonym to substitute the underlined word in the given sentence.

He had created a cocoon of human activities - conversation, interaction, affection - and it filled his life like an overflowing soup bowl.

- Ans
- 1. encasement
 - 2. bundle
 - 3. fabric
 - 4. downy

Question ID : 26433073866
Status : Not Answered
Chosen Option : --

Q.14 Select the most appropriate ANTONYM of the underlined word to fill in the blank.

He borrowed money from his father and _____ it to his friend to help him.

- Ans
- 1. beget
 - 2. beguiled
 - 3. lent
 - 4. reckoned

Question ID : 26433089069
Status : Not Answered
Chosen Option : --

Q.15 Select the appropriate idiom that can replace the underlined phrase in the following sentence.

As he is never on time, he regrets uselessly on missing the flight.

- Ans
- 1. cries for the moon
 - 2. finds fault with
 - 3. cries wolf
 - 4. cries over split milk

Question ID : 26433072516
Status : Not Answered
Chosen Option : --

Comprehension:

In the following passage, some words have been deleted. Read the passage carefully and select the most appropriate option to fill in each blank.

Munoo began (1)_____. He felt resentful and disheartened, thinking how he hated his uncle. But he saw that the fellow on the steel horse, who had been the cause of his (2)_____, had come to grief fifty yards ahead, having collided with a calf (3)_____ among the crowds of men and women near the fruit shops at the crossroads. So he walked along reassured, forgetful still but sufficiently cautious, with (4)_____ ahead of him, another on the row of shops, and an occasional glance behind, to see that there was not another steel horse, or bicycle, as the juggler (5)_____ it, following.

SubQuestion No : 16

Q.16 Select the most appropriate option to fill in blank number 1.

- Ans
- 1. having cried
 - 2. cry
 - 3. cried
 - 4. to cry

Question ID : 26433063571
Status : Not Answered
Chosen Option : --

Comprehension:

In the following passage, some words have been deleted. Read the passage carefully and select the most appropriate option to fill in each blank.

Munoo began (1)_____. He felt resentful and disheartened, thinking how he hated his uncle. But he saw that the fellow on the steel horse, who had been the cause of his (2)_____, had come to grief fifty yards ahead, having collided with a calf (3) _____ among the crowds of men and women near the fruit shops at the crossroads. So he walked along reassured, forgetful still but sufficiently cautious, with (4) _____ ahead of him, another on the row of shops, and an occasional glance behind, to see that there was not another steel horse, or bicycle, as the juggler (5)_____ it, following.

SubQuestion No : 17

Q.17 Select the most appropriate option to fill in blank number 2.

- Ans 1. be punished
 2. punishment
 3. having punish
 4. have punished

Question ID : 26433063572

Status : Not Answered

Chosen Option : --

Comprehension:

In the following passage, some words have been deleted. Read the passage carefully and select the most appropriate option to fill in each blank.

Munoo began (1)_____. He felt resentful and disheartened, thinking how he hated his uncle. But he saw that the fellow on the steel horse, who had been the cause of his (2)_____, had come to grief fifty yards ahead, having collided with a calf (3) _____ among the crowds of men and women near the fruit shops at the crossroads. So he walked along reassured, forgetful still but sufficiently cautious, with (4) _____ ahead of him, another on the row of shops, and an occasional glance behind, to see that there was not another steel horse, or bicycle, as the juggler (5)_____ it, following.

SubQuestion No : 18

Q.18 Select the most appropriate option to fill in blank number 3.

- Ans 1. that strayed
 2. whom strayed about
 3. whose strayed about
 4. who strayed about

Question ID : 26433063573

Status : Not Answered

Chosen Option : --

Comprehension:

In the following passage, some words have been deleted. Read the passage carefully and select the most appropriate option to fill in each blank.

Munoo began (1)_____. He felt resentful and disheartened, thinking how he hated his uncle. But he saw that the fellow on the steel horse, who had been the cause of his (2)_____, had come to grief fifty yards ahead, having collided with a calf (3)_____ among the crowds of men and women near the fruit shops at the crossroads. So he walked along reassured, forgetful still but sufficiently cautious, with (4)_____ ahead of him, another on the row of shops, and an occasional glance behind, to see that there was not another steel horse, or bicycle, as the juggler (5)_____ it, following.

SubQuestion No : 19

Q.19 Select the most appropriate option to fill in blank number 4.

- Ans
- 1. one eye about his uncle
 - 2. one eye with his uncle
 - 3. one eye in his uncle
 - 4. one eye on his uncle

Question ID : 26433063574

Status : Not Answered

Chosen Option : --

Comprehension:

In the following passage, some words have been deleted. Read the passage carefully and select the most appropriate option to fill in each blank.

Munoo began (1)_____. He felt resentful and disheartened, thinking how he hated his uncle. But he saw that the fellow on the steel horse, who had been the cause of his (2)_____, had come to grief fifty yards ahead, having collided with a calf (3)_____ among the crowds of men and women near the fruit shops at the crossroads. So he walked along reassured, forgetful still but sufficiently cautious, with (4)_____ ahead of him, another on the row of shops, and an occasional glance behind, to see that there was not another steel horse, or bicycle, as the juggler (5)_____ it, following.

SubQuestion No : 20

Q.20 Select the most appropriate option to fill in blank number 5.

- Ans
- 1. had been called
 - 2. has called
 - 3. have been called
 - 4. had called

Question ID : 26433063575

Status : Not Answered

Chosen Option : --

Section : Part-D-Hindi

Q.1 भगवान इंद्र स्वर्ग के राजा हैं।

उपरोक्त वाक्य में प्रयुक्त 'इंद्र' शब्द का पर्याय निम्न में से क्या है?

- Ans
- 1. सुरेश
 - 2. खगेश
 - 3. माधव
 - 4. इंदु

Question ID : 26433080857

Status : Answered

Chosen Option : 2

Q.2 निम्नलिखित वाक्य के किस शब्द में वर्तनीगत अशुद्धि है?
हमारे मन में प्राणी मत्र के लिए करुणा होनी चाहिए।

- Ans 1. प्राणी
 2. मत्र
 3. करुणा
 4. हमारे

Question ID : 26433080929
Status : Answered
Chosen Option : 2

Q.3 निम्नलिखित में से कौन सा वाक्य करण कारक का उदाहरण नहीं है?

- Ans 1. सब ही भाग्य को रोते हैं।
 2. मैंने लाठी से सांप मारा।
 3. बच्चे गेंद से खेल रहे हैं।
 4. वह कलम से पत्र लिख रही थी।

Question ID : 26433085034
Status : Answered
Chosen Option : 1

Q.4 निम्नलिखित में से 'पट' का अर्थ क्या नहीं होता है?

- Ans 1. डालना
 2. वस्त्र
 3. पर्दा
 4. किवाड़

Question ID : 26433080944
Status : Answered
Chosen Option : 4

Q.5 जो परिश्रम करते हैं, वे सफल होते हैं।
उपरोक्त वाक्य के किस शब्द में वर्तनीगत अशुद्धि है?

- Ans 1. परिश्रम
 2. सफल
 3. वाक्य शुद्ध है
 4. करते

Question ID : 26433085062
Status : Answered
Chosen Option : 2

Q.6 निम्नलिखित विकल्पों में से कौन सा एक वाक्य क्रिया-विशेषण से सम्बन्ध रखता है?

- Ans 1. वह अब धीरे-धीरे चलेगा।
 2. कोई काम न करना।
 3. क्या मैं घर जाऊँ।
 4. तुम घर जाओ।

Question ID : 26433062954
Status : Answered
Chosen Option : 1

Q.7 आकाश में तारे निकले हुए हैं।
उपरोक्त वाक्य में रेखांकित शब्द के विलोम शब्द का चयन विकल्पों में से कीजिए।

- Ans 1. आसमान
 2. पाताल
 3. उदर
 4. वन

Question ID : 26433079640
Status : Answered
Chosen Option : 2

Q.8 नीचे दिए शब्द के लिए उचित वाक्यांश दिए गए विकल्पों में से चुनिए-
अभूतपूर्व

- Ans 1. जो किसी पर अभियोग लगाए
 2. जिस पर अभियोग लगाया गया हो
 3. जो पहले घटित न हुआ हो
 4. जो भेदा न जा सके

Question ID : 26433062390
Status : Answered
Chosen Option : 3

Q.9 'मुंशी प्रेमचन्द द्वारा लिखित कहानियाँ अद्वितीय हैं।' वाक्य में प्रयुक्त 'अद्वितीय' शब्द का अर्थ क्या है?

- Ans 1. जो किसी के समान हो।
 2. जो बहुत अच्छा हो।
 3. जिसके समान कोई दूसरा न हो।
 4. जिसकी किसी से समानता की जा सके।

Question ID : 26433069735
Status : Answered
Chosen Option : 3

Q.10 मिश्र वाक्य - 'जब मैंने तुम्हें देखा था, तुम रुग्णावस्था में थे।' निम्नलिखित विकल्पों में से इस वाक्य के लिए कौन सा एक उचित सरल वाक्य होगा?

- Ans 1. मैंने तुम्हें रुग्णावस्था में देखा था।
 2. जब तुम्हें देखा था, तुम रुग्णावस्था में थे।
 3. तुम रुग्णावस्था में जब मैंने तुम्हें देखा था।
 4. रुग्णावस्था में जब तुम्हें देखा था।

Question ID : 26433062438
Status : Answered
Chosen Option : 1

Q.11 निम्नलिखित वाक्य के रिक्त स्थान में सबसे उपयुक्त मुहावरा क्या होगा?
'अध्यापक को देखते ही वह _____ गया।'

- Ans 1. भीगी बिल्ली बन
 2. मुहतोड़ जवाब देना
 3. पहाड़ टूट
 4. बाजी मार

Question ID : 26433066727
Status : Answered
Chosen Option : 1

Q.12 निम्न वाक्य में रेखांकित शब्द को विकल्पों में दिए गए शब्दों में से उचित शब्द से बदलें।
राम की वाणी से परशुराम का अहंकार काफूर हो गया।

- Ans 1. दंश
 2. दर्प
 3. धनुष
 4. अभियान

Question ID : 26433074410
Status : Answered
Chosen Option : 2

Q.13 नीचे दिए गए वाक्यांश के लिए एक शब्द होगा-
जिस पेड़ के पत्ते झड़ गए हों।

- Ans 1. सूखा
 2. अधेर
 3. अपर्ण
 4. पर्णल

Question ID : 26433070065
Status : Answered
Chosen Option : 3

Q.14 निम्न वाक्यांश के लिए सार्थक शब्द का चयन विकल्पों में से कीजिए।
जिसके पार देखा जा सके।

- Ans
- 1. पारभासक
 - 2. पाददर्शन
 - 3. पारदर्शक
 - 4. पारमासक

Question ID : 26433066923
Status : Answered
Chosen Option : 3

Q.15 निम्नलिखित मुहावरे के उचित अर्थ का चयन कीजिए-
अपना किया पाना

- Ans
- 1. कर्म का फल भोगना
 - 2. कुछ न करना
 - 3. कम काम करना
 - 4. अपनी वस्तु पाना

Question ID : 26433065886
Status : Answered
Chosen Option : 1

Comprehension:

निम्नलिखित गद्यांश में कुछ शब्दों को हटा दिया गया है। दिए गए विकल्पों की सहायता से रिक्त स्थानों की पूर्ति कीजिए।

एक बार 1. _____ बात है। मैं दिल्ली 2. _____ आगरा जा रहा था। जब मैं 3. _____ पर पहुंचा तो गाड़ी चलने वाली थी। मुझे उस गाड़ी में जाना अवश्य था, अतः बिना 4. _____ लिए एक डिब्बे में चढ़ गया। अभी एक स्टेशन ही निकला था कि डिब्बे में 5. _____ आ गया।

SubQuestion No : 16

Q.16 रिक्त स्थान 1 की पूर्ति के लिए सबसे उपयुक्त विकल्प का चयन करें।

- Ans
- 1. की
 - 2. मिश्र में
 - 3. कि
 - 4. कई

Question ID : 264330110939
Status : Answered
Chosen Option : 1

Comprehension:

निम्नलिखित गद्यांश में कुछ शब्दों को हटा दिया गया है। दिए गए विकल्पों की सहायता से रिक्त स्थानों की पूर्ति कीजिए।

एक बार 1. _____ बात है। मैं दिल्ली 2. _____ आगरा जा रहा था। जब मैं 3. _____ पर पहुंचा तो गाड़ी चलने वाली थी। मुझे उस गाड़ी में जाना अवश्य था, अतः बिना 4. _____ लिए एक डिब्बे में चढ़ गया। अभी एक स्टेशन ही निकला था कि डिब्बे में 5. _____ आ गया।

SubQuestion No : 17

Q.17 रिक्त स्थान 2 की पूर्ति के लिए सबसे उपयुक्त विकल्प का चयन करें।

- Ans
- 1. को
 - 2. से
 - 3. में
 - 4. पर

Question ID : 264330110940

Status : Answered

Chosen Option : 2

Comprehension:

निम्नलिखित गद्यांश में कुछ शब्दों को हटा दिया गया है। दिए गए विकल्पों की सहायता से रिक्त स्थानों की पूर्ति कीजिए।

एक बार 1. _____ बात है। मैं दिल्ली 2. _____ आगरा जा रहा था। जब मैं 3. _____ पर पहुंचा तो गाड़ी चलने वाली थी। मुझे उस गाड़ी में जाना अवश्य था, अतः बिना 4. _____ लिए एक डिब्बे में चढ़ गया। अभी एक स्टेशन ही निकला था कि डिब्बे में 5. _____ आ गया।

SubQuestion No : 18

Q.18 रिक्त स्थान 3 की पूर्ति के लिए सबसे उपयुक्त विकल्प का चयन करें।

- Ans
- 1. स्टेशन
 - 2. मध्य प्रदेश
 - 3. मुंबई
 - 4. हवाई अड्डे

Question ID : 264330110941

Status : Answered

Chosen Option : 1

Comprehension:

निम्नलिखित गद्यांश में कुछ शब्दों को हटा दिया गया है। दिए गए विकल्पों की सहायता से रिक्त स्थानों की पूर्ति कीजिए।

एक बार 1. _____ बात है। मैं दिल्ली 2. _____ आगरा जा रहा था। जब मैं 3. _____ पर पहुंचा तो गाड़ी चलने वाली थी। मुझे उस गाड़ी में जाना अवश्य था, अतः बिना 4. _____ लिए एक डिब्बे में चढ़ गया। अभी एक स्टेशन ही निकला था कि डिब्बे में 5. _____ आ गया।

SubQuestion No : 19

Q.19 रिक्त स्थान 4 की पूर्ति के लिए सबसे उपयुक्त विकल्प का चयन करें।

- Ans
- 1. सामान
 - 2. पैसे
 - 3. टिकट
 - 4. धन

Question ID : 264330110942

Status : Answered

Chosen Option : 3

Comprehension:

निम्नलिखित गद्यांश में कुछ शब्दों को हटा दिया गया है। दिए गए विकल्पों की सहायता से रिक्त स्थानों की पूर्ति कीजिए।

एक बार 1. _____ बात है। मैं दिल्ली 2. _____ आगरा जा रहा था। जब मैं 3. _____ पर पहुंचा तो गाड़ी चलने वाली थी। मुझे उस गाड़ी में जाना अवश्य था, अतः बिना 4. _____ लिए एक डिब्बे में चढ़ गया। अभी एक स्टेशन ही निकला था कि डिब्बे में 5. _____ आ गया।

SubQuestion No : 20

Q.20 रिक्त स्थान 5 की पूर्ति के लिए सबसे उपयुक्त विकल्प का चयन करें।

- Ans
- 1. चालक
 - 2. ड्राइवर
 - 3. टी.टी
 - 4. डॉक्टर

Question ID : 264330110943

Status : Answered

Chosen Option : 3

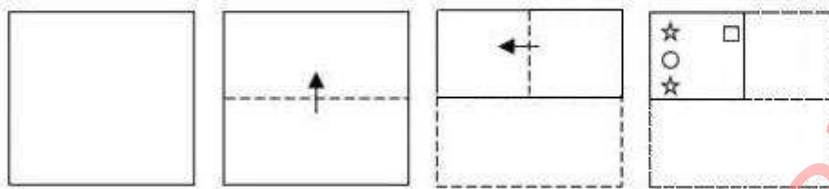
KD Job Updates

Constable GD in CAPFs SSF Rifleman GD in Assam Rifles and Sepoy in NCB Examination 2022

Roll Number	KD Job Updates
Candidate Name	KD Job Updates
Venue Name	Bhartiya Institute of Engineering and Technology
Exam Date	13/01/2023
Exam Time	11:45 AM - 12:45 PM
Subject	Constable GD Examination 2022


Section : Part-A-General Intelligence and Reasoning

Q.1 एक कागज को नीचे दिखाए अनुसार मोड़ा और काटा गया है। कागज की तह खुलने पर यह कैसा दिखाई देगा?




Ans

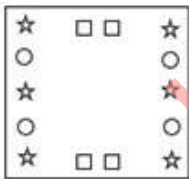
✓ 1.




✗ 2.



✗ 3.



✗ 4.



Question ID : 26433090957

Status : Answered

Chosen Option : 1

Q.2 निम्नलिखित में से कौन सी संख्या दी गई श्रृंखला में प्रश्न चिह्न (?) के स्थान पर आएगी?
9, 17, ?, 57, 89, 129

- Ans
- 1. 20
 - 2. 23
 - 3. 33
 - 4. 35

Question ID : 26433090064
Status : Answered
Chosen Option : 3

Q.3 कौन-सा अक्षर-समूह दी गई श्रृंखला में प्रश्नचिह्न (?) के स्थान पर आकर श्रृंखला को पूर्ण करेगा?
YAFU, CRRE, ?, KZPY, OQBI

- Ans
- 1. FYWD
 - 2. FMBR
 - 3. GRXO
 - 4. GIDO

Question ID : 26433079430
Status : Not Answered
Chosen Option : --

Q.4 नीचे दिए गए समीकरण को गणितीय रूप से सही बनाने के लिए किन दो चिन्हों को परस्पर बदलना चाहिए?

$$128 - 8 + 96 \div 16 \times 20 = 16$$

- Ans
- 1. \times और \div
 - 2. $+$ और \div
 - 3. $-$ और \times
 - 4. $-$ और $+$

Question ID : 264330117567
Status : Answered
Chosen Option : 4

Q.5 दस मित्र दोपहर का भोजन करने के लिए एक रेस्टोरेंट में गए और दो समानांतर पंक्तियों में एक-दूसरे की ओर मुख करके इस प्रकार बैठे कि प्रत्येक पंक्ति में पाँच सदस्य बैठते हैं। K, L, M, N, O उत्तर की ओर मुख करके पंक्ति 1 में बैठे हैं, जबकि व्यक्ति F, G, H, I, J दक्षिण की ओर मुख करके पंक्ति 2 में बैठे हैं। N का मुख J के बगल में बैठे व्यक्ति की ओर है। J और H के बीच में दो व्यक्ति बैठे हैं। पंक्ति के ठीक मध्य में बैठता है। G किसी भी किनारे पर नहीं बैठता है; G का मुख न तो M की ओर है, और न ही K की ओर है। K, M के बाईं ओर बैठा है, लेकिन उसके ठीक बगल में नहीं बैठा है। J किनारे पर बैठे व्यक्ति के ठीक बगल में है। N किसी भी किनारे पर नहीं बैठता है। L, N के बाईं ओर दूसरे स्थान पर बैठा है। J और G के बीच में कितने व्यक्ति बैठे हैं?

- Ans
- 1. दो
 - 2. तीन
 - 3. शून्य
 - 4. एक

Question ID : 26433079070
Status : Answered
Chosen Option : 4

Q.6 'विस्तार' का जो संबंध 'फैलाव' से है, वही संबंध 'संकुचन' का ' _____ ' से है।
(शब्दों को अर्थपूर्ण शब्दों के रूप में मानना है और उन्हें शब्द में अक्षरों/व्यंजनों/स्वरों की संख्या के आधार पर एक-दूसरे से संबंधित नहीं करना है।)

- Ans 1. परास
 2. सिकुड़न
 3. विशाल
 4. आयतन

Question ID : 26433057750
Status : Answered
Chosen Option : 2

Q.7 उस विकल्प का चयन करें जो तीसरे शब्द से उसी प्रकार संबंधित है जिस प्रकार दूसरा शब्द पहले शब्द से संबंधित है।
(शब्दों को अर्थपूर्ण शब्दों के रूप में मानना है, और उन्हें शब्द में अक्षरों/व्यंजनों/स्वरों की संख्या के आधार पर एक-दूसरे से संबंधित नहीं करना है।)
बल्ला : क्रिकेट :: रैकेट : ?

- Ans 1. बेसबॉल
 2. हॉकी
 3. टेनिस
 4. गोल्फ़

Question ID : 26433087198
Status : Answered
Chosen Option : 4

Q.8 एक निश्चित कूट भाषा में 'FORM' शब्द को आंकिक तरीके से 25 के रूप में कूटबद्ध किया जाता है।
'SUIT' शब्द को आंकिक तरीके से 96 के रूप में कूटबद्ध किया जाता है। उसी कूट भाषा में 'RING'
शब्द को आंकिक तरीके से किस रूप में कूटबद्ध किया जाएगा?

- Ans 1. 84
 2. 48
 3. 24
 4. 42

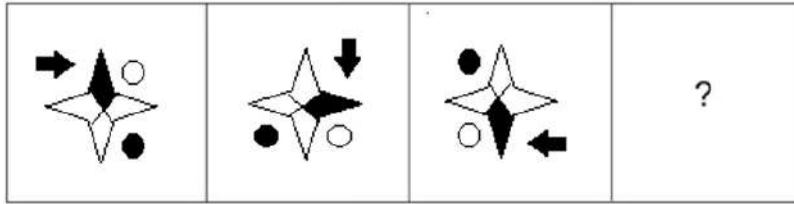
Question ID : 26433090110
Status : Answered
Chosen Option : 1

Q.9 निम्नलिखित में से कौन सी संख्या दी गई श्रृंखला में प्रश्न चिह्न (?) के स्थान पर आएगी?
4, 9, 17, 35, ?, 139

- Ans 1. 71
 2. 96
 3. 69
 4. 70

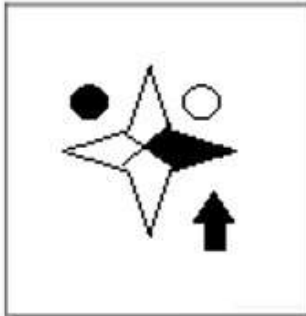
Question ID : 26433085644
Status : Answered
Chosen Option : 3

Q.10 उस आकृति का चयन कीजिए, जो निम्नलिखित आकृति शृंखला में अगले स्थान पर आएगी।

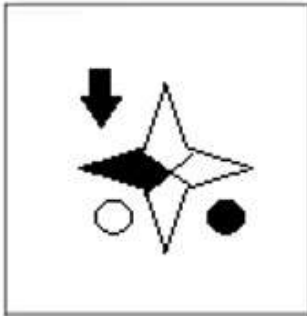


Ans

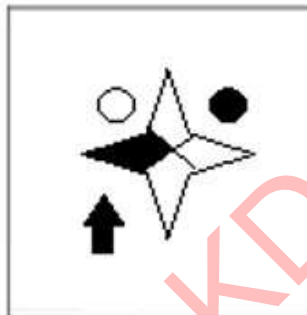
✗ 1.



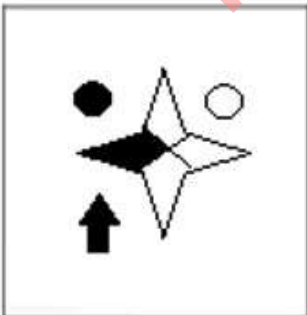
✗ 2.



✓ 3.



✗ 4.



Question ID : 26433083100
Status : Answered
Chosen Option : 3

Q.11 तीन कथनों के बाद तीन निष्कर्ष I, II और III दिए गए हैं। कथनों को सत्य मानते हुए, भले ही वे सामान्य रूप से ज्ञात तथ्यों से भिन्न प्रतीत होते हों, निर्धारित करें कि कौन-सा/से निष्कर्ष, कथनों का तार्किक रूप से अनुसरण करता है/करते हैं।

कथन:

सभी पानी स्याही हैं।

सभी गोंद स्याही हैं।

सभी स्याही पेन हैं।

निष्कर्ष:

I. सभी गोंद पेन हैं।

II. सभी पेन पानी हैं।

III. कुछ पेन गोंद हैं।

- Ans
- 1. केवल निष्कर्ष I और II अनुसरण करते हैं
 - 2. सभी निष्कर्ष अनुसरण करते हैं
 - 3. केवल निष्कर्ष I और III अनुसरण करते हैं
 - 4. केवल निष्कर्ष II और III अनुसरण करते हैं

Question ID : 26433082299

Status : Answered

Chosen Option : 3

Q.12 विकल्पों में दिए गए गणितीय चिह्नों का कौन सा संयोजन निम्न समीकरण में * चिह्नों के स्थान पर क्रमिक रूप से आकर समीकरण को संतुलित करेगा?

$$64 * 140 * 2 * 4 * 10$$

- Ans
- 1. =, ÷, -, +
 - 2. =, ÷, +, -
 - 3. +, -, =, +
 - 4. -, +, ÷, =

Question ID : 26433094996

Status : Answered

Chosen Option : 2

Q.13 दिए गए संयोजन की सही दर्पण छवि का चयन करें जब दर्पण को 'PQ' पर रखा जाता है जैसा कि नीचे दिखाया गया है।

& @ 5436 ARE 

Ans

1. & @ 5436 ARE

2. & @ 5439 ARE

3. & @ 5436 ARE

4. & @ 5486 ARE

Question ID : 26433082744

Status : Answered

Chosen Option : 3

Q.14 कौन सा विकल्प नीचे दिए गए शब्दों के उस क्रम को निरूपित करता है जिस क्रम में वे अंग्रेजी शब्दकोश में आते हैं?

1. MISTER
2. MASTER
3. MARTYR
4. MISTRESS
5. MARTHA

Ans 1. 3, 5, 1, 2, 4

2. 5, 3, 2, 1, 4

3. 5, 3, 1, 2, 4

4. 3, 5, 2, 1, 4

Question ID : 26433092546

Status : Answered

Chosen Option : 2

Q.15 आठ व्यक्ति, A, B, C, D, E, F, G और H एक सीधी पंक्ति में उत्तर की ओर मुख करके बैठे हैं। A के दाईं ओर केवल तीन व्यक्ति बैठे हैं। A और B के बीच केवल एक व्यक्ति बैठा है। B और D के बीच केवल चार व्यक्ति बैठे हैं। F, D के दाईं ओर ठीक बगल में बैठा है। C न तो B के, और न ही D के ठीक बगल में बैठा है। E, G के दाईं ओर दूसरे स्थान पर बैठा है। H और A के बीच में कितने व्यक्ति बैठे हैं?

Ans 1. कोई भी नहीं

2. तीन

3. दो

4. एक

Question ID : 26433092756

Status : Answered

Chosen Option : 4

Q.16 एक निश्चित कूट भाषा में, 'FRUIT' को 'HTUKV' लिखा जाता है और 'TWEAK' को 'VYECM' लिखा जाता है। उसी भाषा में 'VOWEL' कैसे लिखा जाएगा?

- Ans
- 1. QXWVG
 - 2. XQGWM
 - 3. XQWGN
 - 4. QXWGM

Question ID : 26433068895
Status : Answered
Chosen Option : 3

Q.17 निम्नलिखित में से कौन-सा पद दी गई श्रृंखला में प्रश्न-चिह्न (?) के स्थान पर आएगा?
FPA, HSB, IVD, KYE, ?, NEH

- Ans
- 1. LAH
 - 2. LBG
 - 3. MAG
 - 4. MBG

Question ID : 26433069456
Status : Answered
Chosen Option : 2

Q.18 उस विकल्प का चयन करें जो तीसरी संख्या से उसी प्रकार संबंधित है जिस प्रकार दूसरी संख्या पहली संख्या से संबंधित है और छठी संख्या पांचवीं संख्या से संबंधित है।
4 : 30 :: 7 : ? :: 6 : 56

- Ans
- 1. 72
 - 2. 76
 - 3. 70
 - 4. 80

Question ID : 26433067897
Status : Answered
Chosen Option : 1

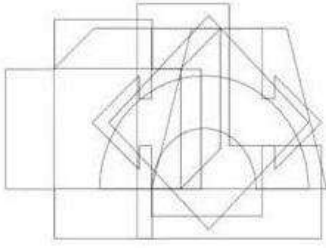
Q.19 'A + B' का अर्थ है 'A, B की पत्नी है'
'A - B' का अर्थ है 'A, B का पति है'
'A × B' का अर्थ है 'A, B का भाई है'
'A ÷ B' का अर्थ है 'A, B की माता है'
यदि $R + T \times S - P \div Q + N$ है, तो निम्न में से कौन सा कथन सही नहीं है?

- Ans
- 1. Q, T की माता है।
 - 2. R, T की पत्नी है।
 - 3. P, Q की माता है।
 - 4. T, S का भाई है।

Question ID : 26433090048
Status : Answered
Chosen Option : 1

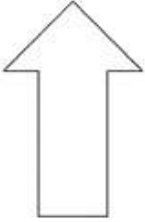
Q.20

उस विकल्प आकृति का चयन करें जो नीचे दी गई आकृति में अंतर्निहित है।
(आकृति घुमाने की अनुमति नहीं है)

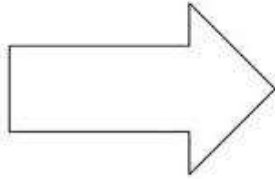


Ans

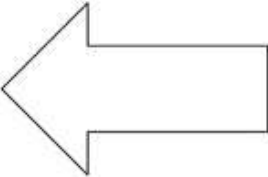
✗ 1.



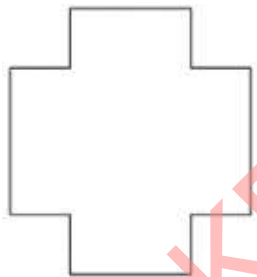
✗ 2.



✗ 3.



✓ 4.



Question ID : 26433085750

Status : Answered

Chosen Option : 4

Section : Part-B-General Knowledge and General awareness

Q.1 _____ का कार्किडका वावु बली पूर्वजों को खुश करने के लिए एक हिंदू अनुष्ठान है।

Ans ✓ 1. केरल

✗ 2. गोवा

✗ 3. महाराष्ट्र

✗ 4. मेघालय

Question ID : 264330106220

Status : Not Answered

Chosen Option : --

Q.2 भोपाल झील, जोकि अपने समय की सबसे बड़ी कृत्रिम झीलों में से एक है, का निर्माण किस शताब्दी में किया गया था?

- Ans 1. 19वीं
 2. 11वीं
 3. 15वीं
 4. 13वीं

Question ID : 26433091499
Status : Not Answered
Chosen Option : --

Q.3 भारतीय संविधान में न्यायपालिका की स्वतंत्रता का प्रावधान निम्नलिखित में से किस देश के संविधान से लिया गया है?

- Ans 1. यूनाइटेड किंगडम
 2. फ्रांस
 3. यूएसएसआर
 4. संयुक्त राज्य अमेरिका

Question ID : 26433090669
Status : Answered
Chosen Option : 1

Q.4 ईडेन गार्डन क्रिकेट मैदान निम्नलिखित में से किस शहर में स्थित है?

- Ans 1. जयपुर
 2. चेन्नई
 3. लखनऊ
 4. कोलकाता

Question ID : 264330116263
Status : Answered
Chosen Option : 4

Q.5 किसी देश की प्रति व्यक्ति आय की गणना, देश की राष्ट्रीय आय को उसके/उसकी _____ से भाग देकर की जाती है।

- Ans 1. ऋण
 2. जनसंख्या
 3. देयता
 4. परिसंपत्ति

Question ID : 264330115354
Status : Answered
Chosen Option : 2

Q.6 फरवरी 2022 में सीबीएसई (CBSE) के नए अध्यक्ष के रूप में किसे नियुक्त किया गया था?

- Ans
- 1. प्रो. दिनेश प्रसाद सकलानी
 - 2. विनीत जोशी
 - 3. प्रो. एम जगदीश कुमार
 - 4. राजकुमार रंजन सिंह

Question ID : 26433081826
Status : Answered
Chosen Option : 1

Q.7 भारतीय संविधान की विशेषता; संघवाद का केंद्रीकृत रूप, जिसमें केंद्र के पास राज्यों से अधिक शक्तियां होती हैं, किस मॉडल पर आधारित है?

- Ans
- 1. कनाडाई मॉडल
 - 2. जापान मॉडल
 - 3. ब्रिटेन मॉडल
 - 4. यूएसए मॉडल

Question ID : 26433090676
Status : Answered
Chosen Option : 3

Q.8 सोडियम निम्नलिखित में से किसमें रखा जाता है?

- Ans
- 1. केरोसीन
 - 2. दूध
 - 3. चीनी के घोल
 - 4. पानी

Question ID : 26433089650
Status : Answered
Chosen Option : 1

Q.9 निम्नलिखित में से क्या केंद्रक में मौजूद नहीं होता है?

- Ans
- 1. रिक्तिका
 - 2. डिऑक्सीराइबोन्यूक्लिक अम्ल
 - 3. केंद्रिका
 - 4. जीन

Question ID : 264330115191
Status : Answered
Chosen Option : 1

Q.10 वर्ष 2019 के लिए बालासरस्वती पुरस्कार निम्नलिखित में से किसने जीता?

- Ans 1. महबूब सुभानी
 2. अलरमेल वल्ली
 3. अनुराधा पाण्डेय
 4. कृष्णा एला

Question ID : 264330115849
Status : Answered
Chosen Option : 4

Q.11 वॉलीबॉल की पुरुष की टीम के लिए भू-तल से नेट की मानक ऊंचाई कितनी होती है?

- Ans 1. 2.33 मीटर
 2. 2.53 मीटर
 3. 2.23 मीटर
 4. 2.43 मीटर

Question ID : 26433096229
Status : Answered
Chosen Option : 2

Q.12 हरित क्रांति की शुरुआत _____ में हुई थी।

- Ans 1. संयुक्त राज्य अमेरिका
 2. मेक्सिको
 3. ब्राज़ील
 4. ऑस्ट्रेलिया

Question ID : 264330115436
Status : Answered
Chosen Option : 1

Q.13 सोनल मानसिंह को निम्नलिखित में से किस शास्त्रीय नृत्य के लिए संगीत नाटक अकादमी पुरस्कार से सम्मानित किया गया?

- Ans 1. मणिपुरी
 2. ओडिसी
 3. कथकली
 4. मोहिनीअट्टम

Question ID : 26433074076
Status : Answered
Chosen Option : 1

Q.14 नवंबर 2022 तक की स्थिति के अनुसार, निम्नलिखित में से कौन दिल्ली के मुख्यमंत्री है?

- Ans
- 1. पेमा खांडू
 - 2. मनोज सिन्हा
 - 3. अरविंद केजरीवाल
 - 4. वी. नारायणस्वामी

Question ID : 264330114974
Status : Answered
Chosen Option : 3

Q.15 औद्योगिक नीति संकल्प, 1956 ने उद्योगों को _____ श्रेणियों में वर्गीकृत किया है।

- Ans
- 1. तीन
 - 2. एक
 - 3. दो
 - 4. चार

Question ID : 264330116144
Status : Answered
Chosen Option : 1

Q.16 निम्नलिखित में से कौन शुंग वंश का प्रथम शासक था?

- Ans
- 1. पारसमित्र शुंग
 - 2. परममित्र शुंग
 - 3. पुष्यमित्र शुंग
 - 4. पशुपतिनाथ शुंग

Question ID : 26433090575
Status : Answered
Chosen Option : 3

Q.17 अटल पेंशन योजना (APY), भारतीय नागरिकों के लिए एक पेंशन योजना है, जो _____ क्षेत्र के श्रमिकों पर केंद्रित है।

- Ans
- 1. संगठित
 - 2. असंगठित
 - 3. जटिल
 - 4. अनिर्दिष्ट

Question ID : 264330116195
Status : Answered
Chosen Option : 2

Q.18 कौन-सी योजना गैर प्रमुख बंदरगाहों और प्रमुख बंदरगाहों की कनेक्टिविटी सहित तटीय सीमा क्षेत्रों के साथ राज्य सड़कों के विकास के लिए प्रस्तावित की गई है?

- Ans
- 1. राष्ट्रीय राजमार्ग विकास परियोजना
 - 2. सागरमाला परियोजना
 - 3. गोल्डन क्वार्टिलेटरल परियोजना
 - 4. सेतुभारतम परियोजना

Question ID : 264330115601
Status : Answered
Chosen Option : 4

Q.19 जनगणना 2011 के अनुसार भारत में पुरुषों की साक्षरता दर कितनी है?

- Ans
- 1. 81.17%
 - 2. 80.65%
 - 3. 84.35%
 - 4. 82.14%

Question ID : 264330116058
Status : Answered
Chosen Option : 4

Q.20 अंग्रेजों द्वारा पारित निम्नलिखित में से किस अधिनियम ने भारतीयों को हथियार रखने की अनुमति नहीं दी?

- Ans
- 1. आर्स एक्ट 1888
 - 2. आर्स एक्ट 1850
 - 3. आर्स एक्ट 1878
 - 4. आर्स एक्ट 1868

Question ID : 26433089901
Status : Not Answered
Chosen Option : --

Section : Part-C-Elementary Mathematics

Q.1 12 cm ऊँचाई और 6 cm व्यास वाले एक ठोस धातु के बेलन को पिघलाकर बनाए जाने वाले प्रत्येक 6 cm व्यास वाले ठोस गोलों की संख्या ज्ञात कीजिए।

- Ans
- 1. 2
 - 2. 6
 - 3. 4
 - 4. 3

Question ID : 26433080063
Status : Answered
Chosen Option : 1

Q.2 Rs.10 प्रति लीटर का मिश्रण प्राप्त करने के लिए पानी और Rs.15 प्रति लीटर के दूध का क्या अनुपात होना चाहिए? (पानी निःशुल्क उपलब्ध है)

- Ans
- 1. 2 : 5
 - 2. 1 : 2
 - 3. 2 : 3
 - 4. 1 : 3

Question ID : 26433082707
Status : Answered
Chosen Option : 1

Q.3 यदि 24 महिलाएं एक कार्य को 16 दिनों में पूरा कर सकती हैं, तो 32 महिलाएं उसी कार्य को कितने दिनों में पूरा कर लेंगी?

- Ans
- 1. 9
 - 2. 11
 - 3. 10
 - 4. 12

Question ID : 26433080331
Status : Answered
Chosen Option : 4

Q.4 टीना को 8200 रुपये के ग्राइंडर पर 15 प्रतिशत की छूट मिलती है। चूंकि वह नकद भुगतान करती है, इसलिए उसे 3 प्रतिशत की अतिरिक्त छूट भी मिलती है। वह कितना भुगतान करती है?

- Ans
- 1. 6970 रुपये
 - 2. 6850.80 रुपये
 - 3. 6760.90 रुपये
 - 4. 6560 रुपये

Question ID : 264330116764
Status : Answered
Chosen Option : 3

Q.5 एक खिलौने की कार की लागत 1800 रुपये हैं। इसके मूल्य को सेल में घटाकर 1500 रुपये कर दिया गया। मूल्य में कितने प्रतिशत कमी की गई?

- Ans
- 1. 80/9 प्रतिशत
 - 2. 50/3 प्रतिशत
 - 3. 100/7 प्रतिशत
 - 4. 60/7 प्रतिशत

Question ID : 264330116799
Status : Answered
Chosen Option : 2

Q.6 एक मूलधन 2 वर्षों में 15% वार्षिक की दर से चक्रवृद्धि ब्याज पर ₹26,450 का मिश्रधन देता है, ब्याज का संयोजन वार्षिक रूप से किया गया है। मूलधन क्या है?

- Ans
- 1. ₹23,000
 - 2. ₹22,000
 - 3. ₹20,000
 - 4. ₹21,000

Question ID : 26433091994
Status : Answered
Chosen Option : 4

Q.7 एक दुकानदार ने 2 साड़ियों और 4 कमीजों का मूल्य ₹1,600 तय किया। उसी पैसे से कोई व्यक्ति 1 साड़ी और 6 कमीज खरीद सकता है। यदि मुझे 12 कमीजें खरीदनी हैं, तो मुझे कितना भुगतान करना होगा?

- Ans
- 1. ₹2,400
 - 2. ₹4,800
 - 3. ₹1,800
 - 4. ₹1,600

Question ID : 26433075877
Status : Answered
Chosen Option : 1

Q.8 यदि किसी धनराशि पर 5% वार्षिक की दर से दो वर्ष का साधारण ब्याज Rs.50 है, तो समान दर और समान अवधि के लिए चक्रवृद्धि ब्याज कितना होगा, जब ब्याज वार्षिक रूप से चक्रवृद्धि होता है?

- Ans
- 1. Rs.51.25
 - 2. Rs.53.50
 - 3. Rs.50.50
 - 4. Rs.53.00

Question ID : 26433065291
Status : Answered
Chosen Option : 1

Q.9 तीन संख्याओ, 120, 240 और 480 का लघुत्तम समापवर्त्य ज्ञात कीजिए।

- Ans
- 1. 960
 - 2. 1080
 - 3. 480
 - 4. 720

Question ID : 26433091513
Status : Answered
Chosen Option : 3

Q.10 अखिल एक कार्य को 26 दिनों में पूरा कर सकता है। साक्षी और अखिल दोनों समान कार्य को 20 दिनों में पूरा कर सकते हैं। उन्होंने एक साथ शुरू किया लेकिन साक्षी ने 6 दिन काम करने के बाद छोड़ दिया। दिनों की संख्या ज्ञात करें जिसमें अखिल शेष कार्य को पूरा करेगा।

- Ans
- 1. 12/5 दिन
 - 2. 91/5 दिन
 - 3. 55/4 दिन
 - 4. 89/5 दिन

Question ID : 264330116879
Status : Answered
Chosen Option : 2

Q.11 एक कुत्ता, खरगोश की प्रत्येक 6 छलांग के लिए 5 छलांग लेता है, लेकिन कुत्ते की 4 छलांग खरगोश की 5 छलांग के बराबर होती है। कुत्ते और खरगोश की चाल का अनुपात क्या है?

- Ans
- 1. 24 : 25
 - 2. 16 : 24
 - 3. 24 : 16
 - 4. 25 : 24

Question ID : 26433076381
Status : Answered
Chosen Option : 1

Q.12 चार कुर्सियों की कीमत दो मेजों की कीमत के बराबर है। चार मेजों की कीमत दो बोर्ड की कीमत के बराबर है और चार बोर्ड की कीमत दो पंखों की कीमत के बराबर है। यदि एक पंखे की कीमत ₹850 है, तो एक कुर्सी की कीमत _____ है।

- Ans
- 1. ₹106.25
 - 2. ₹425
 - 3. ₹237.50
 - 4. ₹475

Question ID : 26433081565
Status : Answered
Chosen Option : 3

Q.13 व्यंजक $2\frac{3}{7} \times \left[\left(11\frac{2}{6} \div \left(\frac{25}{18} + 2\frac{5}{6} - \frac{7}{36} \right) \right) \right] = y \div 72.5 \times 204$ में y का मान

ज्ञात कीजिए।

Ans

1. $\frac{19}{3}$

2. $\frac{15}{2}$

3. $\frac{17}{7}$

4. $\frac{21}{5}$

Question ID : 26433086266

Status : Not Answered

Chosen Option : --

Q.14 A और B दो टाइपिस्ट हैं। एक दिन अपराह्न में, उनमें से प्रत्येक को टाइपिंग के लिए 80 पृष्ठ दिए गए। उन्होंने कार्य को समान रूप से विभाजित किया, लेकिन B ने A से 40 मिनट पहले समाप्त किया, जिसने उसी कार्य के लिए 4 घंटे का समय लिया था। अगले अपराह्न, उन्हें फिर से टाइप करने के लिए 121 पृष्ठ दिए गए। हालाँकि, इस बार उन्होंने कार्य को इस तरह विभाजित करने का फैसला किया कि वे एक साथ टाइपिंग समाप्त कर लें। A को कितने पृष्ठ टाइप करने थे?

Ans

1. 60 पृष्ठ

2. 55 पृष्ठ

3. 77 पृष्ठ

4. 50 पृष्ठ

Question ID : 26433081047

Status : Not Answered

Chosen Option : --

Q.15 यदि 40 kg भार का व्यक्ति शामिल हो जाता है, तो एक समूह का औसत भार 1 kg बढ़ जाता है। यदि इस व्यक्ति का भार 28 kg रहा होता, तो समूह का औसत भार 1 kg कम हो जाता। समूह का वास्तविक औसत भार कितना है?

Ans

1. 34 kg

2. 24 kg

3. 39 kg

4. 29 kg

Question ID : 26433087346

Status : Answered

Chosen Option : 1

Q.16 मार्च में, एक दुकानदार ने जींस की खरीद पर 20% छूट और एक कोट पर 12% छूट के लिए छूट योजना शुरू की है। साथ ही, वह भुगतान करने के लिए केवल SBI कार्ड का उपयोग करने पर 5% की छूट दे रहा है। आनंद ने Rs.1,200 के अंकित मूल्य की जींस और Rs.4,500 के अंकित मूल्य का एक कोट खरीदा। यदि वह HDFC बैंक कार्ड के माध्यम से भुगतान करता है तो उसे कितना भुगतान करना होगा?

- Ans
- 1. Rs.5,016
 - 2. Rs.4,560
 - 3. Rs.4,920
 - 4. Rs.4,674

Question ID : 26433080391
Status : Answered
Chosen Option : 3

Q.17 यदि एक बेलन के आधार की त्रिज्या और ऊँचाई क्रमशः 17 cm और 49 cm है, तो बेलन का वक्र पृष्ठीय क्षेत्रफल क्या होगा? ($\pi = 22/7$ का उपयोग करे)

- Ans
- 1. 5244 cm²
 - 2. 5288 cm²
 - 3. 5236 cm²
 - 4. 5256 cm²

Question ID : 26433075710
Status : Answered
Chosen Option : 3

Q.18 एक पुलिसकर्मी को 380 m की दूरी से एक चोर दिखाई देता है। चोर भागने लगता है और पुलिसकर्मी उसका पीछा करता है। चोर और पुलिसकर्मी क्रमशः 25 m/sec और 30 m/sec की चाल से दौड़ते हैं। पुलिसकर्मी को चोर को पकड़ने में कितना समय लगेगा?

- Ans
- 1. 76 सेकंड
 - 2. 82 सेकंड
 - 3. 92 सेकंड
 - 4. 56 सेकंड

Question ID : 26433076402
Status : Not Answered
Chosen Option : --

Q.19 एक गतिमान वस्तु द्वारा तय की गई दूरी 'd', समय 't' के अनुक्रमानुपाती है। जब एक ट्रेन 3 घंटे में 120 मील की यात्रा करती है, तो वह 8 घंटे में कितने मील की यात्रा करेगी?

- Ans
- 1. 40
 - 2. 320
 - 3. 80
 - 4. 160

Question ID : 26433081581
Status : Not Answered
Chosen Option : --

Q.20 एक परीक्षा में, प्रत्येक 100 अंकों के तीन विषय हैं। एक छात्र पहले विषय में 75% और दूसरे विषय में 86% अंक प्राप्त करता है। उसने कुल मिलाकर 68% अंक हासिल किए। तीसरे विषय में उसके अंकों का प्रतिशत कितना है?

- Ans
- 1. 43%
 - 2. 56%
 - 3. 48%
 - 4. 65%

Question ID : 26433081013
Status : Not Answered
Chosen Option : --

Section : Part-D-English

Q.1 Select the most appropriate option that can substitute the underlined segment in the given sentence.

To insure peace and calm, the government imposed a countrywide curfew for three days.

- Ans
- 1. To insure peace along calm
 - 2. In to ensure peace and calm
 - 3. To ensure peace and calm
 - 4. Insure peace and calm

Question ID : 26433091769
Status : Not Answered
Chosen Option : --

Q.2 Which of the following options is most similar in meaning to the given word?
Seize

- Ans
- 1. Catch
 - 2. Ocean
 - 3. Filter
 - 4. End

Question ID : 26433088811
Status : Not Answered
Chosen Option : --

Q.3 Select the most appropriate option to fill in the blank.

Affluent classes live a life high on the _____.

- Ans
- 1. level
 - 2. state
 - 3. end
 - 4. hog

Question ID : 26433073214
Status : Not Answered
Chosen Option : --

Q.4 Select the most appropriate option that can substitute the underlined segment in the given sentence.

During the lockdown, many families were barely able to make both the ends meet.

- Ans
- 1. barely managed to make ends meet
 - 2. were making both the ends meet
 - 3. could make both the ends meet
 - 4. can manage to make both the ends meet

Question ID : 26433094277
Status : Not Answered
Chosen Option : --

Q.5 Select the most appropriate option to fill in the blank.

The students arranged an open _____ on the topic of pandemics and social life after them.

- Ans
- 1. debase
 - 2. drought
 - 3. debate
 - 4. debt

Question ID : 26433073785
Status : Not Answered
Chosen Option : --

Q.6 Select the most appropriate synonym of the word given below to fill in the blank in the following sentence.

Austere

My uncle said, "Think about a monk who lives a _____ life".

- Ans
- 1. luxurious
 - 2. logical
 - 3. strict
 - 4. dark

Question ID : 26433093261
Status : Not Answered
Chosen Option : --

Q.7 Select the most appropriate ANTONYM of the given word.

Ready

- Ans
- 1. Set
 - 2. Holistic
 - 3. Unresponsive
 - 4. Humble

Question ID : 26433072419
Status : Not Answered
Chosen Option : --

Q.8 Select the most appropriate option to substitute the underlined segment in the given sentence.

The surveyor wrote a report on the property after doing an on-field evaluation.

- Ans
- 1. official collection
 - 2. off-field tracking
 - 3. off-site assignment
 - 4. on-site assessment

Question ID : 26433092915
Status : Not Answered
Chosen Option : --

Q.9 Select the most appropriate meaning of the given idiom.

Add fuel to the flames

- Ans
- 1. On the point of dying
 - 2. Performing a desirable action
 - 3. At the slightest signal or provocation
 - 4. Making a bad situation even worse

Question ID : 26433086431
Status : Not Answered
Chosen Option : --

Q.10 Select the INCORRECTLY spelt word.

- Ans
- 1. Deseive
 - 2. Deposit
 - 3. Decision
 - 4. Definite

Question ID : 26433073926
Status : Not Answered
Chosen Option : --

Q.11 Fill in the blanks with appropriate homonym.

If you want to _____ the world, you should be the one to take the first step.

- Ans
- 1. change (switch)
 - 2. change (loose money)
 - 3. change (transfer)
 - 4. change (alter)

Question ID : 26433092932
Status : Not Answered
Chosen Option : --

Q.12 Select the most appropriate ANTONYM of the word given in the bracket to fill in the blank.

He carried his method into every detail of life and lived on his earnings with extreme _____ (frugality).

- Ans
- 1. luxury
 - 2. assist
 - 3. spare
 - 4. ease

Question ID : 26433060327
Status : Not Answered
Chosen Option : --

Q.13 Select the most appropriate synonym of the underlined word.

The manager would like to talk to the team member about an important issue immediately.

- Ans
- 1. a significant
 - 2. a bad
 - 3. an enormous
 - 4. a good

Question ID : 26433089001
Status : Not Answered
Chosen Option : --

Q.14 Select the option that expresses the given sentence in simple past tense.

- A. I was calling you some time back to resolve this issue.
- B. I had been calling you some time back to resolve this issue.
- C. I have called you some time back to resolve this issue.
- D. I called you some time back to resolve this issue.

- Ans
- 1. B
 - 2. D
 - 3. A
 - 4. C

Question ID : 26433073519
Status : Not Answered
Chosen Option : --

Q.15 Select the most appropriate option to fill in the blank.

Computers are able to process _____ amounts of data in mere seconds.

- Ans
- 1. bulge
 - 2. foster
 - 3. massive
 - 4. peer

Question ID : 26433060335
Status : Not Answered
Chosen Option : --

Comprehension:

In the following passage, some words have been deleted. Read the passage carefully and select the most appropriate option to fill in each blank.

It's no less than a pilgrimage for those who come to our shores for medical treatments. Medical tourism in India is on an upswing, with about 5,00,000 foreign patients travelling to India for medical care. The (1) _____ worth of the industry is estimated at ₹1,000 crores, with a growth potential of 100 per cent every year. The industry is poised to bring in as much as ₹5,000 to ₹10,000 crores by 2012.

Many factors contribute to the expansion of this sector, one of them being the (2) _____ facilities. "Only when we go to different countries do we realise how much better off we are in terms of infrastructure and quality. The country has the resources to be on the global map for medical tourism as it has a combination of all the right ingredients," says Dr. Rajendra Prasad, senior consultancy neurosurgery.

India is also renowned for its talent pool and the doctors are known for their (3) _____ and knowledge. Cutting edge medical technologies and drugs available are on a par with the developed world. The cost factor is another big reason for the popularity of India as the medical destination, the difference being as much as 10 or 20 times.

The culture of 'Atithi Devo Bhava' extends into medical tourism, with quality facilities being offered by hospitals to international patients. Super speciality hospitals are successfully providing unparalleled medical treatment to patients, resulting in (4) _____ outcomes, very low risk of infections and excellent post surgery care. The whole experience can be simply termed as 'value for money'.

Medical tourism is (5) _____ a fast-growing sector. It is felt that the government is not doing enough to promote this sector. The Ministry of Tourism should pitch in a big way with more financial support to stakeholders and better infrastructure facilities. More liberal loans, tax benefits and incentives to medical service providers will go a long way in giving a boost to this industry. Promoting medical tourism would mean more employment opportunities for our people, more goodwill for the country and more dollars for the government treasury.

SubQuestion No : 16

Q.16 Select the most appropriate option to fill in blank number 1.

- Ans 1. current
 2. prevalent
 3. living
 4. modern

Question ID : 26433097072

Status : Not Answered

Chosen Option : --

Comprehension:

In the following passage, some words have been deleted. Read the passage carefully and select the most appropriate option to fill in each blank.

It's no less than a pilgrimage for those who come to our shores for medical treatments. Medical tourism in India is on an upswing, with about 5,00,000 foreign patients travelling to India for medical care. The (1) _____ worth of the industry is estimated at ₹1,000 crores, with a growth potential of 100 per cent every year. The industry is poised to bring in as much as ₹5,000 to ₹10,000 crores by 2012.

Many factors contribute to the expansion of this sector, one of them being the (2) _____ facilities. "Only when we go to different countries do we realise how much better off we are in terms of infrastructure and quality. The country has the resources to be on the global map for medical tourism as it has a combination of all the right ingredients," says Dr. Rajendra Prasad, senior consultancy neurosurgery.

India is also renowned for its talent pool and the doctors are known for their (3) _____ and knowledge. Cutting edge medical technologies and drugs available are on a par with the developed world. The cost factor is another big reason for the popularity of India as the medical destination, the difference being as much as 10 or 20 times.

The culture of 'Atithi Devo Bhava' extends into medical tourism, with quality facilities being offered by hospitals to international patients. Super speciality hospitals are successfully providing unparalleled medical treatment to patients, resulting in (4) _____ outcomes, very low risk of infections and excellent post surgery care. The whole experience can be simply termed as 'value for money'.

Medical tourism is (5) _____ a fast-growing sector. It is felt that the government is not doing enough to promote this sector. The Ministry of Tourism should pitch in a big way with more financial support to stakeholders and better infrastructure facilities. More liberal loans, tax benefits and incentives to medical service providers will go a long way in giving a boost to this industry. Promoting medical tourism would mean more employment opportunities for our people, more goodwill for the country and more dollars for the government treasury.

SubQuestion No : 17

Q.17 Select the most appropriate option to fill in blank number 2.

- Ans 1. showy
 2. high-end
 3. fashionable
 4. ostentatious

Question ID : 26433097073

Status : Not Answered

Chosen Option : --

Comprehension:

In the following passage, some words have been deleted. Read the passage carefully and select the most appropriate option to fill in each blank.

It's no less than a pilgrimage for those who come to our shores for medical treatments. Medical tourism in India is on an upswing, with about 5,00,000 foreign patients travelling to India for medical care. The (1) _____ worth of the industry is estimated at ₹1,000 crores, with a growth potential of 100 per cent every year. The industry is poised to bring in as much as ₹5,000 to ₹10,000 crores by 2012.

Many factors contribute to the expansion of this sector, one of them being the (2) _____ facilities. "Only when we go to different countries do we realise how much better off we are in terms of infrastructure and quality. The country has the resources to be on the global map for medical tourism as it has a combination of all the right ingredients," says Dr. Rajendra Prasad, senior consultancy neurosurgery.

India is also renowned for its talent pool and the doctors are known for their (3) _____ and knowledge. Cutting edge medical technologies and drugs available are on a par with the developed world. The cost factor is another big reason for the popularity of India as the medical destination, the difference being as much as 10 or 20 times.

The culture of 'Atithi Devo Bhava' extends into medical tourism, with quality facilities being offered by hospitals to international patients. Super speciality hospitals are successfully providing unparalleled medical treatment to patients, resulting in (4) _____ outcomes, very low risk of infections and excellent post surgery care. The whole experience can be simply termed as 'value for money'.

Medical tourism is (5) _____ a fast-growing sector. It is felt that the government is not doing enough to promote this sector. The Ministry of Tourism should pitch in a big way with more financial support to stakeholders and better infrastructure facilities. More liberal loans, tax benefits and incentives to medical service providers will go a long way in giving a boost to this industry. Promoting medical tourism would mean more employment opportunities for our people, more goodwill for the country and more dollars for the government treasury.

SubQuestion No : 18

Q.18 Select the most appropriate option to fill in blank number 3.

- Ans 1. expertise
 2. intimacy
 3. acquaintance
 4. conversance

Question ID : 26433097074

Status : Not Answered

Chosen Option : --

Comprehension:

In the following passage, some words have been deleted. Read the passage carefully and select the most appropriate option to fill in each blank.

It's no less than a pilgrimage for those who come to our shores for medical treatments. Medical tourism in India is on an upswing, with about 5,00,000 foreign patients travelling to India for medical care. The (1) _____ worth of the industry is estimated at ₹1,000 crores, with a growth potential of 100 per cent every year. The industry is poised to bring in as much as ₹5,000 to ₹10,000 crores by 2012.

Many factors contribute to the expansion of this sector, one of them being the (2) _____ facilities. "Only when we go to different countries do we realise how much better off we are in terms of infrastructure and quality. The country has the resources to be on the global map for medical tourism as it has a combination of all the right ingredients," says Dr. Rajendra Prasad, senior consultancy neurosurgery.

India is also renowned for its talent pool and the doctors are known for their (3) _____ and knowledge. Cutting edge medical technologies and drugs available are on a par with the developed world. The cost factor is another big reason for the popularity of India as the medical destination, the difference being as much as 10 or 20 times.

The culture of 'Atithi Devo Bhava' extends into medical tourism, with quality facilities being offered by hospitals to international patients. Super speciality hospitals are successfully providing unparalleled medical treatment to patients, resulting in (4) _____ outcomes, very low risk of infections and excellent post surgery care. The whole experience can be simply termed as 'value for money'.

Medical tourism is (5) _____ a fast-growing sector. It is felt that the government is not doing enough to promote this sector. The Ministry of Tourism should pitch in a big way with more financial support to stakeholders and better infrastructure facilities. More liberal loans, tax benefits and incentives to medical service providers will go a long way in giving a boost to this industry. Promoting medical tourism would mean more employment opportunities for our people, more goodwill for the country and more dollars for the government treasury.

SubQuestion No : 19

Q.19 Select the most appropriate option to fill in blank number 4.

Ans 1. superior

2. fancy

3. premium

4. ultimate

Question ID : 26433097075

Status : Not Answered

Chosen Option : --

Comprehension:

In the following passage, some words have been deleted. Read the passage carefully and select the most appropriate option to fill in each blank.

It's no less than a pilgrimage for those who come to our shores for medical treatments. Medical tourism in India is on an upswing, with about 5,00,000 foreign patients travelling to India for medical care. The (1) _____ worth of the industry is estimated at ₹1,000 crores, with a growth potential of 100 per cent every year. The industry is poised to bring in as much as ₹5,000 to ₹10,000 crores by 2012.

Many factors contribute to the expansion of this sector, one of them being the (2) _____ facilities. "Only when we go to different countries do we realise how much better off we are in terms of infrastructure and quality. The country has the resources to be on the global map for medical tourism as it has a combination of all the right ingredients," says Dr. Rajendra Prasad, senior consultancy neurosurgery.

India is also renowned for its talent pool and the doctors are known for their (3) _____ and knowledge. Cutting edge medical technologies and drugs available are on a par with the developed world. The cost factor is another big reason for the popularity of India as the medical destination, the difference being as much as 10 or 20 times.

The culture of 'Atithi Devo Bhava' extends into medical tourism, with quality facilities being offered by hospitals to international patients. Super speciality hospitals are successfully providing unparalleled medical treatment to patients, resulting in (4) _____ outcomes, very low risk of infections and excellent post surgery care. The whole experience can be simply termed as 'value for money'.

Medical tourism is (5) _____ a fast-growing sector. It is felt that the government is not doing enough to promote this sector. The Ministry of Tourism should pitch in a big way with more financial support to stakeholders and better infrastructure facilities. More liberal loans, tax benefits and incentives to medical service providers will go a long way in giving a boost to this industry. Promoting medical tourism would mean more employment opportunities for our people, more goodwill for the country and more dollars for the government treasury.

SubQuestion No : 20

Q.20 Select the most appropriate option to fill in blank number 5.

- Ans 1. forsooth
 2. undoubtedly
 3. conceivably
 4. alright

Question ID : 26433097076

Status : Not Answered

Chosen Option : --

Section : Part-D-Hindi

Q.1 निम्नलिखित विकल्पों में से कौन सा एक वाक्य सम्बन्धवाचक सर्वनाम का उदाहरण नहीं है?

- Ans 1. जो व्यक्ति आपत्ति में विचलित नहीं होता, वह अवश्य अपनी मंजिल पाता है।
 2. यह अच्छा विचार है।
 3. जो दूसरों के लिए गड्ढा खोदता है, वह स्वयं उसमें गिरता है।
 4. जिसे चोट लगती है, वही पीर समझता है।

Question ID : 26433091241

Status : Answered

Chosen Option : 4

Q.2 "यह घटना अद्भुत है।"
उक्त वाक्य में प्रयुक्त 'अद्भुत' के स्थान पर उसके समानार्थी शब्द का प्रयोग निम्न में से किस वाक्य में नहीं किया गया है?

- Ans
- 1. यह घटना आश्चर्यजनक है।
 - 2. यह घटना विलक्षण है।
 - 3. यह घटना भयानक है।
 - 4. यह घटना अपूर्व है।

Question ID : 26433085149
Status : Answered
Chosen Option : 1

Q.3 निम्नलिखित वाक्य में से अशुद्धि पहचानें।
आपकी घड़ी में कै बजे है?

- Ans
- 1. बजे
 - 2. घड़ी
 - 3. कै
 - 4. आपकी

Question ID : 26433080930
Status : Answered
Chosen Option : 3

Q.4 निम्नलिखित मुहावरे के उचित अर्थ का चयन कीजिए-
चेहरे पर हवाईयाँ उड़ना

- Ans
- 1. उड़ान भरना
 - 2. अचानक गिरना
 - 3. घबराना
 - 4. चुप रहना

Question ID : 26433065883
Status : Answered
Chosen Option : 3

Q.5 निम्न में से कौन-सा शब्द 'कमल' शब्द का पर्यायवाची है?

- Ans
- 1. नीरद
 - 2. कंचन
 - 3. जलद
 - 4. राजीव

Question ID : 26433067075
Status : Answered
Chosen Option : 4

Q.6 'मुझे आप पुराने पते पर पत्र दीजिएगा।' इस वाक्य में 'दीजिएगा' के स्थान पर उपयुक्त शब्द क्या होगा?

- Ans 1. भेजिएगा
 2. लीजिएगा
 3. सोचिएगा
 4. आइएगा

Question ID : 26433066800
Status : Answered
Chosen Option : 1

Q.7 ऊपर की ओर जाने वाला।
उपरोक्त वाक्यांश के लिए एक शब्द होगा-

- Ans 1. उपही
 2. उरक्षत
 3. ऊर्ध्वगामी
 4. अस्ताचल

Question ID : 26433070062
Status : Answered
Chosen Option : 3

Q.8 निम्नलिखित में से किस विकल्प में सर्वनाम शब्द त्रुटिपूर्ण है?

- Ans 1. तुम तो बहुत व्यस्त हो।
 2. उसने अपने माली को काम से निकाल दिया।
 3. हमारे से अब यह सब नहीं होता।
 4. आप लोग बहुत बड़े आदमी हैं।

Question ID : 26433063003
Status : Answered
Chosen Option : 3

Q.9 'जिसमें शक्ति न हो' वाक्यांश के लिए इनमें से उपयुक्त शब्द कौन-सा है?

- Ans 1. अशक्त
 2. शक्त
 3. अशक्य
 4. अशोक

Question ID : 26433066890
Status : Answered
Chosen Option : 1

Q.10 'जो स्त्री प्रिय बोलती है', वाक्यांश के लिए एक शब्द _____ है।

- Ans
- 1. कर्णप्रिय
 - 2. प्रेयसी
 - 3. प्रियंवदा
 - 4. कोमलांगी

Question ID : 26433062942
Status : Answered
Chosen Option : 3

Q.11 'राई का _____ बनाना।'
उपरोक्त मुहावरे में रिक्त स्थान की पूर्ति उचित शब्द द्वारा कीजिए।

- Ans
- 1. घर
 - 2. दीवार
 - 3. पहाड़
 - 4. किला

Question ID : 26433069687
Status : Answered
Chosen Option : 3

Q.12 निम्नलिखित में से शुद्ध वाक्य कौन-सा है?

- Ans
- 1. राघव अपने मामे के साथ घूमने गया है।
 - 2. रमेश आगरे गया था।
 - 3. सीता पटने से आयी है।
 - 4. अल्पेश सवेरे जल्दी उठता है।

Question ID : 26433085139
Status : Answered
Chosen Option : 4

Q.13 नीचे दिए गए वाक्य के अशुद्ध भाग का चयन कीजिए।
अध्यापक ने आपकी अभ्यास पुस्तिका का अवलोकन करके देख लिया है।

- Ans
- 1. अध्यापक ने आपकी
 - 2. अभ्यास पुस्तिका का
 - 3. लिया है।
 - 4. अवलोकन करके देख

Question ID : 26433085084
Status : Answered
Chosen Option : 4

Q.14 राहुल का बेटा नित उन्नति की ओर अग्रसर है।
उपरोक्त वाक्य में रेखांकित शब्द का उपयुक्त विलोम शब्द निम्न में से क्या होगा?

- Ans 1. अवनति
 2. पदोन्नति
 3. अननति
 4. अउन्नति

Question ID : 26433079637
Status : Answered
Chosen Option : 1

Q.15 निम्न में से कौन-सा शब्द 'बिजली' शब्द का पर्यायवाची शब्द नहीं है?

- Ans 1. चंचला
 2. तटिनी
 3. दामिनी
 4. तड़ित

Question ID : 26433067081
Status : Answered
Chosen Option : 2

Comprehension:

दिए गए गद्यांश के अनुसार प्रश्न संख्या 1-5 के उत्तर दीजिए।
पृथ्वी के ऊपर वायुमण्डल के स्ट्रेटोस्फियर में ओज़ोन गैस की एक मोटी परत है। यह धरती के जीवन का रक्षा कवच है जिससे (1) _____ से आने वाली हानिकारक (2) _____ रोक ली जाती है। किंतु पृथ्वी के ऊपर जहरीली गैसों के बादल बढ़ते जाने के कारण सूर्य की अनावश्यक किरणें बाह्य अंतरिक्ष में वर्तित नहीं हो पातीं जिसके कारण पृथ्वी का (3) _____ (ग्लोबल वार्मिंग) बढ़ता जा रहा है। इससे छोटे-बड़े सभी द्वीपसमूहों एवं महाद्वीपों के (4) _____ क्षेत्रों के डूब जाने का खतरा बढ़ गया है। इसे 'ग्रीन हाउस प्रभाव' कहते हैं। यही स्थिति रही तो मुंबई जैसे महानगर प्रलय की गोद में समा सकते हैं। पृथ्वी पर बढ़ते तापमान के कारण विश्व (5) _____ को अमृत एवं पोषक जल प्रदान करने वाले ग्लेशियर या तो लुप्त हो गए हैं या लुप्त होने की ओर बढ़ते जा रहे हैं।

SubQuestion No : 16

Q.16 दिए गए शब्दों में से उचित शब्द चुनकर रिक्त स्थान (1) की पूर्ति कीजिए।

- Ans 1. चंद्रमा
 2. तारामण्डल
 3. सूर्य
 4. शनि ग्रह

Question ID : 26433094109
Status : Answered
Chosen Option : 3

Comprehension:

दिए गए गद्यांश के अनुसार प्रश्न संख्या 1-5 के उत्तर दीजिए।
पृथ्वी के ऊपर वायुमण्डल के स्ट्रेटोस्फियर में ओज़ोन गैस की एक मोटी परत है। यह धरती के जीवन का रक्षा कवच है जिससे (1) _____ से आने वाली हानिकारक (2) _____ रोक ली जाती हैं। किंतु पृथ्वी के ऊपर ज़हरीली गैसों के बादल बढ़ते जाने के कारण सूर्य की अनावश्यक किरणें बाह्य अंतरिक्ष में वर्तित नहीं हो पातीं जिसके कारण पृथ्वी का (3) _____ (ग्लोबल वार्मिंग) बढ़ता जा रहा है। इससे छोटे-बड़े सभी द्वीपसमूहों एवं महाद्वीपों के (4) _____ क्षेत्रों के डूब जाने का खतरा बढ़ गया है। इसे 'ग्रीन हाउस प्रभाव' कहते हैं। यही स्थिति रही तो मुंबई जैसे महानगर प्रलय की गोद में समा सकते हैं। पृथ्वी पर बढ़ते तापमान के कारण विश्व (5) _____ को अमृत एवं पोषक जल प्रदान करने वाले ग्लेशियर या तो लुप्त हो गए हैं या लुप्त होने की ओर बढ़ते जा रहे हैं।

SubQuestion No : 17

Q.17 दिए गए शब्दों में से उचित शब्द चुनकर रिक्त स्थान (2) की पूर्ति कीजिए।

- Ans 1. हवाएँ
 2. रौशनी
 3. तरंगें
 4. किरणें

Question ID : 26433094110

Status : Answered

Chosen Option : 4

Comprehension:

दिए गए गद्यांश के अनुसार प्रश्न संख्या 1-5 के उत्तर दीजिए।
पृथ्वी के ऊपर वायुमण्डल के स्ट्रेटोस्फियर में ओज़ोन गैस की एक मोटी परत है। यह धरती के जीवन का रक्षा कवच है जिससे (1) _____ से आने वाली हानिकारक (2) _____ रोक ली जाती हैं। किंतु पृथ्वी के ऊपर ज़हरीली गैसों के बादल बढ़ते जाने के कारण सूर्य की अनावश्यक किरणें बाह्य अंतरिक्ष में वर्तित नहीं हो पातीं जिसके कारण पृथ्वी का (3) _____ (ग्लोबल वार्मिंग) बढ़ता जा रहा है। इससे छोटे-बड़े सभी द्वीपसमूहों एवं महाद्वीपों के (4) _____ क्षेत्रों के डूब जाने का खतरा बढ़ गया है। इसे 'ग्रीन हाउस प्रभाव' कहते हैं। यही स्थिति रही तो मुंबई जैसे महानगर प्रलय की गोद में समा सकते हैं। पृथ्वी पर बढ़ते तापमान के कारण विश्व (5) _____ को अमृत एवं पोषक जल प्रदान करने वाले ग्लेशियर या तो लुप्त हो गए हैं या लुप्त होने की ओर बढ़ते जा रहे हैं।

SubQuestion No : 18

Q.18 दिए गए शब्दों में से उचित शब्द चुनकर रिक्त स्थान (3) की पूर्ति कीजिए।

- Ans 1. तापमान
 2. बोझ
 3. प्रदूषण
 4. क्षेत्रफल

Question ID : 26433094111

Status : Answered

Chosen Option : 1

Comprehension:

दिए गए गद्यांश के अनुसार प्रश्न संख्या 1-5 के उत्तर दीजिए।
पृथ्वी के ऊपर वायुमण्डल के स्ट्रेटोस्फियर में ओज़ोन गैस की एक मोटी परत है। यह धरती के जीवन का रक्षा कवच है जिससे (1) _____ से आने वाली हानिकारक (2) _____ रोक ली जाती हैं। किंतु पृथ्वी के ऊपर ज़हरीली गैसों के बादल बढ़ते जाने के कारण सूर्य की अनावश्यक किरणें बाह्य अंतरिक्ष में वर्तित नहीं हो पातीं जिसके कारण पृथ्वी का (3) _____ (ग्लोबल वार्मिंग) बढ़ता जा रहा है। इससे छोटे-बड़े सभी द्वीपसमूहों एवं महाद्वीपों के (4) _____ क्षेत्रों के डूब जाने का खतरा बढ़ गया है। इसे 'ग्रीन हाउस प्रभाव' कहते हैं। यही स्थिति रही तो मुंबई जैसे महानगर प्रलय की गोद में समा सकते हैं। पृथ्वी पर बढ़ते तापमान के कारण विश्व (5) _____ को अमृत एवं पोषक जल प्रदान करने वाले ग्लेशियर या तो लुप्त हो गए हैं या लुप्त होने की ओर बढ़ते जा रहे हैं।

SubQuestion No : 19

Q.19 दिए गए शब्दों में से उचित शब्द चुनकर रिक्त स्थान (4) की पूर्ति कीजिए।

- Ans 1. पहाड़ी
 2. तटीय
 3. मैदानी
 4. रेगिस्तानी

Question ID : 26433094112

Status : Answered

Chosen Option : 2

Comprehension:

दिए गए गद्यांश के अनुसार प्रश्न संख्या 1-5 के उत्तर दीजिए।
पृथ्वी के ऊपर वायुमण्डल के स्ट्रेटोस्फियर में ओज़ोन गैस की एक मोटी परत है। यह धरती के जीवन का रक्षा कवच है जिससे (1) _____ से आने वाली हानिकारक (2) _____ रोक ली जाती हैं। किंतु पृथ्वी के ऊपर ज़हरीली गैसों के बादल बढ़ते जाने के कारण सूर्य की अनावश्यक किरणें बाह्य अंतरिक्ष में वर्तित नहीं हो पातीं जिसके कारण पृथ्वी का (3) _____ (ग्लोबल वार्मिंग) बढ़ता जा रहा है। इससे छोटे-बड़े सभी द्वीपसमूहों एवं महाद्वीपों के (4) _____ क्षेत्रों के डूब जाने का खतरा बढ़ गया है। इसे 'ग्रीन हाउस प्रभाव' कहते हैं। यही स्थिति रही तो मुंबई जैसे महानगर प्रलय की गोद में समा सकते हैं। पृथ्वी पर बढ़ते तापमान के कारण विश्व (5) _____ को अमृत एवं पोषक जल प्रदान करने वाले ग्लेशियर या तो लुप्त हो गए हैं या लुप्त होने की ओर बढ़ते जा रहे हैं।

SubQuestion No : 20

Q.20 दिए गए शब्दों में से उचित शब्द चुनकर रिक्त स्थान (5) की पूर्ति कीजिए।

- Ans 1. बिरादरी
 2. सभ्यता
 3. परिवेश
 4. संस्कृति

Question ID : 26433094113

Status : Answered

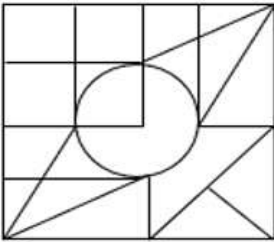
Chosen Option : 2

Constable GD in CAPFs SSF Rifleman GD in Assam Rifles and Sepoy in NCB Examination 2022

Roll Number	KD Job Updates
Candidate Name	KD Job Updates
Venue Name	iON Digital Zone iDZ Jamshedpur
Exam Date	13/01/2023
Exam Time	2:30 PM - 3:30 PM
Subject	Constable GD Examination 2022

Section : Part-A-General Intelligence and Reasoning

Q.1 उस विकल्प आकृति का चयन करें जो दी गई आकृति में अंतर्निहित है (घुमाने की अनुमति नहीं है)।



Ans

- ✗ 1.
- ✗ 2.
- ✗ 3.
- ✓ 4.

Question ID : 26433069482

Status : Answered

Chosen Option : 3

Q.2 छः विद्यार्थी एक वृत्ताकार मेज के परितः मेज के केंद्र की ओर मुख करके बैठे हैं। जेम्स, पीटर के दाईं ओर दूसरे स्थान पर बैठा है। चार्ल्स, पीटर के बाईं ओर दूसरे स्थान पर बैठा है। सैम, जेम्स के दाईं ओर तीसरे स्थान पर बैठा है। टॉम, सैम के दाईं ओर दूसरे स्थान पर बैठा है। एशले, चार्ल्स और जेम्स के ठीक बगल में है। एशले और टॉम के बीच में कौन बैठा है?

- Ans 1. जेम्स
 2. चार्ल्स
 3. सैम
 4. पीटर

Question ID : 26433081776

Status : Answered

Chosen Option : 1

Q.3 यदि दर्पण को 'PQ' पर रखा जाए जैसा कि नीचे दिखाया गया है, तो दिए गए अंक-अक्षर संयोजन का सही दर्पण प्रतिबिम्ब कौन-सा होगा?

H 3 Y 5 V N | P
Q

- Ans 1. H 3 Λ 2 Λ N
 2. N V 2 Y 3 H
 3. N V 2 Y 3 H
 4. N Λ 2 Y 3 H

Question ID : 26433081697

Status : Answered

Chosen Option : 3

Q.4 एक निश्चित कूट भाषा में 'BRAND' को 'DTYPF' लिखा जाता है और 'TOWER' को 'VMYCT' लिखा जाता है। उसी भाषा में 'STUDY' किस प्रकार लिखा जाएगा?

- Ans 1. UVWFA
 2. UVFW
 3. UVSFA
 4. URWBA

Question ID : 26433081766

Status : Answered

Chosen Option : 3

Q.5 उस समुच्चय का चयन करें, जिसकी संख्याओं के बीच ठीक वही संबंध है, जो संबंध निम्नांकित समुच्चयों की संख्याओं में है।
(नोट: संख्याओं को उसके घटक अंकों में विभाजित किए बिना, पूर्ण संख्याओं पर ही गणितीय संक्रियाएँ की जानी चाहिए। जैसे 13 - मान लीजिए 13 पर गणितीय संक्रियाएँ जैसे कि 13 में जोड़ना/घटाना/गुणा करना आदि किया जा सकता है। 13 को 1 और 3 में तोड़कर और फिर 1 और 3 पर गणितीय संक्रियाएँ करने की अनुमति नहीं है।)
(14, 231, 19)
(7, 154, 15)

- Ans 1. (13, 210, 17)
 2. (18, 242, 20)
 3. (9, 160, 15)
 4. (11, 188, 13)

Question ID : 26433076542
Status : Not Answered
Chosen Option : --

Q.6 किस विकल्प में निम्नलिखित शब्दों का वह क्रम दिया गया है, जिस क्रम में वे अंग्रेजी शब्दकोश में आते हैं?
1 instant
2 invite
3 ingrained
4 initiate
5 intimate

- Ans 1. 3,4,5,1,2
 2. 3,4,1,5,2
 3. 3,1,5,4,2
 4. 3,5,1,4,2

Question ID : 26433069305
Status : Answered
Chosen Option : 2

Q.7 गणितीय चिह्नों के उस सही संयोजन का चयन करें, जिन्हें क्रमिक रूप से * चिह्नों के स्थान पर रखे जाने पर दिया गया समीकरण संतुलित हो जाएगा।
176 * 4 * 9 * 3 * 13 * 14

- Ans 1. × , + , ÷ , - , =
 2. + , - , ÷ , × , =
 3. ÷ , + , - , × , =
 4. - , × , + , ÷ , =

Question ID : 26433085356
Status : Answered
Chosen Option : 3

Q.8 उस विकल्प का चयन कीजिए जो पांचवें अक्षर-समूह से उसी प्रकार संबंधित है जिस प्रकार दूसरा अक्षर-समूह, पहले अक्षर-समूह से संबंधित है और चौथा अक्षर-समूह, तीसरे अक्षर-समूह से संबंधित है।
PJE : RNK :: DHN : FLT :: AMS : ?

Ans 1. CRY

2. CQZ

3. DQY

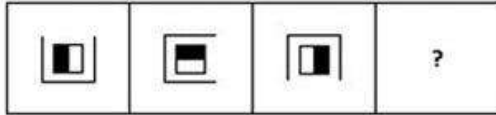
4. CQY

Question ID : 26433057714

Status : Answered

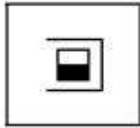
Chosen Option : 4

Q.9 उस आकृति का चयन कीजिए, जो नीचे दी गई शृंखला में आगे आएगी।

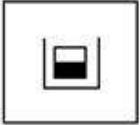


Ans


1.




2.



3.



4.

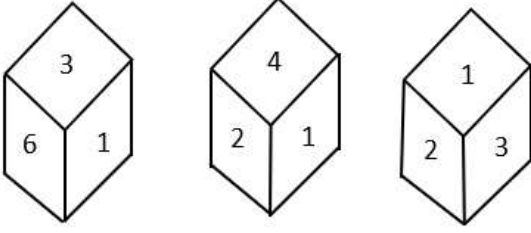


Question ID : 26433078974

Status : Answered

Chosen Option : 1

Q.10 एक ही पासे की तीन अलग-अलग स्थितियों को दर्शाया गया है। '1' दर्शाने वाले फलक के विपरीत फलक की संख्या ज्ञात कीजिए।



- Ans 1. 5
 2. 2
 3. 3
 4. 6

Question ID : 26433090075

Status : Answered

Chosen Option : 1

Q.11 दिए गए विकल्पों में से वह संख्या चुनिए, जो निम्नलिखित श्रृंखला में प्रश्न-चिह्न (?) को प्रतिस्थापित कर सके।

120, 121, 128, 141, 160, ?

- Ans 1. 198
 2. 185
 3. 180
 4. 190

Question ID : 26433078920

Status : Answered

Chosen Option : 2

Q.12 पाँच मित्र (A, B, C, E और F) एक वृत्ताकार मेज के परितः मेज के केंद्र की ओर मुख करके बैठे हैं। F, C के दाईं ओर ठीक बगल में बैठा है। A, C के बाईं ओर ठीक बगल में बैठा है। E, F के दाईं ओर ठीक बगल में बैठा है। B के दाईं ओर ठीक बगल में कौन बैठा है?

- Ans 1. C
 2. A
 3. E
 4. F

Question ID : 26433080434

Status : Answered

Chosen Option : 2

Q.13 कौन-सा अक्षर-समूह दी गई श्रृंखला में प्रश्नचिह्न (?) के स्थान पर आकर श्रृंखला को पूर्ण करेगा?
BMYU, YJVR, ?, SDPL, PAMI

- Ans 1. VHSO
 2. WGSO
 3. VGSO
 4. WHSO

Question ID : 26433067946
Status : Answered
Chosen Option : 3

Q.14 'A + B' का अर्थ है कि A, B का भाई है'
'A - B' का अर्थ है कि 'A, B की माता है'
'A × B' का अर्थ है कि 'A, B का पति है'
'A ÷ B' का अर्थ है कि 'A, B की बहन है'
यदि $P \div Q - R + S - T \times U$ है, तो निम्नलिखित में से कौन-सा कथन सही नहीं है?

- Ans 1. R, T की माता का भाई है।
 2. P, U की सास है।
 3. Q, S की माता है।
 4. P, R की माता की बहन है।

Question ID : 26433069660
Status : Answered
Chosen Option : 1

Q.15 दिए गए कथनों और निष्कर्षों को ध्यानपूर्वक पढ़िए। यह मानते हुए कि कथनों में दी गई जानकारी सत्य है, चाहे वह सामान्य रूप से ज्ञात तथ्यों से भिन्न प्रतीत होती हो, निर्धारित कीजिए कि दिए गए निष्कर्षों में से कौन-सा/से कथनों का तार्किक रूप से अनुसरण करता है/करते हैं।

कथन:

- A. सभी पेंसिल लकड़ियाँ हैं। B. कुछ लकड़ियाँ नोट्स हैं।
C. सभी डायरियाँ नोट्स हैं।

निष्कर्ष:

- I. कुछ नोट्स डायरियाँ हैं। II. कुछ लकड़ियाँ पेंसिल हैं।
III. कुछ डायरियाँ लकड़ियाँ हैं।

- Ans 1. निष्कर्ष I और III दोनों अनुसरण करते हैं।
 2. केवल निष्कर्ष II अनुसरण करता है।
 3. निष्कर्ष I और II दोनों अनुसरण करते हैं।
 4. केवल निष्कर्ष III अनुसरण करता है।

Question ID : 26433081633
Status : Marked For Review
Chosen Option : 1

Q.16 दिए गए विकल्पों में से उस अक्षर-समूह का चयन कीजिए जो निम्न श्रृंखला में प्रश्न-चिह्न (?) के स्थान पर आ सकता है।
FWCD, HQEF, JKGH, ? , NYKL

- Ans 1. GRXJ
 2. LDGB
 3. LEIJ
 4. GTBP

Question ID : 26433074745
Status : Answered
Chosen Option : 3

Q.17 उस विकल्प का चयन करें, जो तीसरे शब्द से उसी प्रकार संबंधित है, जिस प्रकार दूसरा शब्द पहले शब्द से संबंधित है।
(शब्दों को अर्थपूर्ण शब्दों के रूप में माना जाना चाहिए और इन्हें शब्द में अक्षरों की संख्या / व्यंजनों की संख्या / स्वरों की संख्या के आधार पर एक दूसरे से संबद्ध नहीं किया जाना चाहिए।)
तीन : त्रिभुज :: चार : ?

- Ans 1. क्षट्रभुज
 2. कोण
 3. आयत
 4. पंचभुज

Question ID : 26433079466
Status : Answered
Chosen Option : 3

Q.18 एक निश्चित कूट भाषा में 'TERMINATOR' को 'ROTANTERMI' के रूप में लिखा जाता है और 'SUPERMAN' को 'NAMRSUPE' के रूप में लिखा जाता है। उसी भाषा में 'AVENGERS' को किस प्रकार लिखा जाएगा?

- Ans 1. SREGAVNE
 2. SERGAVEN
 3. SREGAVEN
 4. SREAGVEN

Question ID : 26433068224
Status : Answered
Chosen Option : 3

Q.19 निम्नलिखित में से कौन-सी संख्या दी गई श्रृंखला में प्रश्न-चिह्न (?) को प्रतिस्थापित करेगी?
29, 65, 95, 119, ?, 149, 155

- Ans 1. 143
 2. 131
 3. 119
 4. 137

Question ID : 26433069389
Status : Answered
Chosen Option : 4

Q.20 नीचे दिए गए समीकरण को सही बनाने के लिए किन दो चिन्हों को गणितीय रूप से परस्पर बदलना चाहिए?

$$25 + 8 \div 40 - 20 \times 25 = 10$$

- Ans
- 1. \div और \times
 - 2. $-$ और $+$
 - 3. $+$ और \times
 - 4. $+$ और \div

Question ID : 264330117517

Status : Answered

Chosen Option : 3

Section : Part-B-General Knowledge and General awareness

Q.1 भारत में सहकारी बैंक, राज्य _____ अधिनियम के अंतर्गत पंजीकृत होता है।

- Ans
- 1. उद्योग
 - 2. सहकारी समितियां
 - 3. कंपनियों
 - 4. अल्पसंख्यक

Question ID : 264330115304

Status : Answered

Chosen Option : 2

Q.2 खेलो इंडिया स्कूल गेम्स का पहला संस्करण किस वर्ष आयोजित किया गया था?

- Ans
- 1. 2020
 - 2. 2018
 - 3. 2014
 - 4. 2019

Question ID : 26433092325

Status : Not Answered

Chosen Option : --

Q.3 _____ को शुरू की गई, स्टार्टअप इंडिया पहल ने उद्यमियों को समर्थन देने के उद्देश्य से कई कार्यक्रम शुरू किए हैं।

- Ans
- 1. 14 जनवरी, 2014
 - 2. 16 जनवरी, 2016
 - 3. 17 जनवरी, 2017
 - 4. 15 जनवरी, 2015

Question ID : 264330116186

Status : Answered

Chosen Option : 2

Q.4 एल्कीन्स के सामान्य सूत्र को पहचानिए।

- Ans 1. C_nH_{4n}
 2. C_nH_{3n}
 3. C_nH_{2n}
 4. C_nH_{6n}

Question ID : 26433086743
Status : Not Answered
Chosen Option : --

Q.5 अश्वघोष जिन्होंने 'बुद्धचरित' की रचना की, _____ के दरबार में रहते थे।

- Ans 1. सदाशकाना
 2. वासुदेव
 3. कनिष्क
 4. वशिष्क

Question ID : 264330106591
Status : Answered
Chosen Option : 3

Q.6 नवंबर 2022 तक की स्थिति के अनुसार, भारत में खाद्य प्रसंस्करण उद्योग के केंद्रीय मंत्री कौन हैं?

- Ans 1. नित्यानंद राय
 2. पशुपति कुमार पारस
 3. राज कुमार सिंह
 4. हरदीप सिंह पुरी

Question ID : 264330114936
Status : Answered
Chosen Option : 4

Q.7 भारत के संविधान में प्रारंभिक 10 मौलिक कर्तव्यों को कब जोड़ा गया था?

- Ans 1. 1985
 2. 1976
 3. 1947
 4. 1955

Question ID : 264330115622
Status : Answered
Chosen Option : 2

Q.8 निम्नलिखित में से तीन का नाम अक्सर समूह के रूप में एक साथ प्रयोग किया जाता है। निम्न में से विषम व्यक्तित्व का चयन कीजिए।

- Ans
- 1. लाला लाजपत राय
 - 2. बाल गंगाधर तिलक
 - 3. बिपिन चंद्र पाल
 - 4. दादा भाई नौरोजी

Question ID : 264330115711
Status : Answered
Chosen Option : 4

Q.9 भारत के संविधान की कौन सी अनुसूची संघ, राज्य और समवर्ती सूचियों से संबंधित है?

- Ans
- 1. सातवीं
 - 2. ग्यारहवीं
 - 3. नौवीं
 - 4. पांचवीं

Question ID : 26433074906
Status : Answered
Chosen Option : 1

Q.10 भारत में, किसी लघु उद्योग को _____ के संदर्भ में परिभाषित किया जाता है।

- Ans
- 1. भागीदारों की अधिकतम संख्या
 - 2. किसी इकाई की परिसंपत्ति पर अधिकतम निवेश की अनुमति
 - 3. कर्मचारियों की अधिकतम संख्या
 - 4. निदेशकों की अधिकतम संख्या

Question ID : 264330116135
Status : Not Answered
Chosen Option : --

Q.11 निम्नलिखित में से किस त्योहार में 14 देवताओं की पूजा की जाती है और यह जुलाई के महीने में मनाया जाता है?

- Ans
- 1. खर्ची पूजा
 - 2. बोनालू
 - 3. लोसर
 - 4. त्रिपुरेश्वरी

Question ID : 264330115112
Status : Answered
Chosen Option : 1

Q.12 चांग लो आदिवासी नृत्य _____ की चांग जनजाति द्वारा किया जाता है।

- Ans
- 1. मध्य प्रदेश
 - 2. छत्तीसगढ़
 - 3. नागालैंड
 - 4. गोवा

Question ID : 264330115069
Status : Answered
Chosen Option : 3

Q.13 अंतः उष्ण कटिबंधीय अभिसरण क्षेत्र में क्या होता है?

- Ans
- 1. दक्षिण-पश्चिमी और उत्तर-पश्चिमी व्यापारिक पवनें अभिसरण करती हैं
 - 2. दक्षिण-पूर्वी और उत्तर-पश्चिमी व्यापारिक पवनें अभिसरण करती हैं
 - 3. दक्षिण-पश्चिमी और उत्तर-पश्चिमी व्यापारिक पवनें विचलन करती हैं
 - 4. दक्षिण-पूर्वी और उत्तर-पूर्वी व्यापारिक पवनें अभिसरण करती हैं

Question ID : 26433091488
Status : Answered
Chosen Option : 4

Q.14 चौधरी अजीत सिंह, जिनका निधन 2021 में हुआ, निम्नलिखित में से किस पार्टी के संस्थापक थे?

- Ans
- 1. समाजवादी पार्टी
 - 2. भारतीय कम्युनिस्ट पार्टी
 - 3. राष्ट्रीय लोक दल
 - 4. बहुजन समाज पार्टी

Question ID : 264330115007
Status : Not Answered
Chosen Option : --

Q.15 दूरसंचार उद्योग में उपग्रह, क्लोउड कंप्यूटर नेटवर्क और _____ शामिल होते हैं।

- Ans
- 1. इंडक्शन कुकर
 - 2. वायरलेस नेटवर्क
 - 3. एयर कंडीशनर
 - 4. नलकूप

Question ID : 264330115400
Status : Answered
Chosen Option : 2

Q.16 फास्ट फूड प्रायः वसा और _____ से भरपूर होते हैं।

- Ans
- 1. पोषक तत्वों
 - 2. कैल्शियम
 - 3. आयरन
 - 4. अपूरित कैलोरी

Question ID : 264330115223
Status : Answered
Chosen Option : 4

Q.17 भारत एशिया के किस भाग में स्थित है?

- Ans
- 1. उत्तरी एशिया
 - 2. दक्षिण एशिया
 - 3. पूर्वी एशिया
 - 4. पश्चिम एशिया

Question ID : 264330116049
Status : Answered
Chosen Option : 3

Q.18 किसे तिरुमला तिरुपति देवस्थानम की अस्थाना नर्तकी होने का सम्मान प्राप्त है?

- Ans
- 1. मल्लिका साराभाई
 - 2. शोभना नारायण
 - 3. यामिनी कृष्णमूर्ति
 - 4. सोनल मानसिंह

Question ID : 264330115840
Status : Answered
Chosen Option : 3

Q.19 शक्ति, ऊर्जा का सर्वाधिक दृश्य रूप, जिसे प्रायः आधुनिक सभ्यता में प्रगति से पहचाना जाता है, सामान्यतः उसे क्या कहा जाता है?

- Ans
- 1. कोयला
 - 2. बिजली
 - 3. तेल
 - 4. जीवाश्म ईंधन

Question ID : 264330115551
Status : Answered
Chosen Option : 4

Q.20 निम्नलिखित में से किसने 2019 दक्षिण एशियाई खेलों की मेजबानी की?

- Ans
- 1. पाकिस्तान
 - 2. नेपाल
 - 3. भारत
 - 4. श्रीलंका

Question ID : 264330115940
Status : Answered
Chosen Option : 3

Q.1 एक ट्रेन दिल्ली से देहरादून तक 120 km/h की चाल से और देहरादून से दिल्ली तक 130 km/h की चाल से यात्रा करती है। पूरी यात्रा के दौरान औसत चाल क्या है?

- Ans
- ✓ 1. 124.8 km/h
 - ✗ 2. 125.4 km/h
 - ✗ 3. 127.8 km/h
 - ✗ 4. 126.8 km/h

Question ID : 26433075114
Status : Answered
Chosen Option : 1

Q.2 वार्षिक चक्रवृद्धि आधार पर गणना किए जाने पर कोई धनराशि 2 वर्ष में Rs.30,250 और 3 वर्ष में Rs.33,275 हो जाती है। धनराशि ज्ञात करें।

- Ans
- ✗ 1. Rs.24,000
 - ✗ 2. Rs.23,000
 - ✓ 3. Rs.25,000
 - ✗ 4. Rs.26,000

Question ID : 26433082404
Status : Answered
Chosen Option : 3

Q.3 ₹ 15,000 में सामान बेचने पर, रामू को ₹ 3,000 का लाभ होता है। उसका लाभ प्रतिशत क्या है?

- Ans
- ✗ 1. 30%
 - ✗ 2. 20%
 - ✓ 3. 25%
 - ✗ 4. 18%

Question ID : 26433075544
Status : Answered
Chosen Option : 3

Q.4 अंकित मूल्य पर 10%, 20% और 40% की क्रमिक छूट के बराबर एक एकल छूट _____ है।

- Ans
- ✗ 1. $52\frac{1}{5}\%$
 - ✗ 2. $51\frac{4}{5}\%$
 - ✓ 3. $56\frac{4}{5}\%$
 - ✗ 4. $48\frac{1}{5}\%$

Question ID : 26433074458
Status : Answered
Chosen Option : 3

Q.5 रवीश ने कुल दूरी की शुरुआती 20 km की दूरी 12 km/h की चाल से तय की; अगले 25 km की दूरी 10 km/h की चाल से तय की और शेष दूरी 15 km/h की चाल से तय की। यदि उसकी कुल औसत चाल 13.5 km/h थी, तो रवीश ने 15 km/h की चाल से कितनी दूरी तय की?

Ans 1. 111.95 km

2. 113.95km

3. 110.95 km

4. 112.5 km

Question ID : 26433073132

Status : Not Answered

Chosen Option : --

Q.6 $\frac{3}{8}$, $\frac{5}{12}$ और $\frac{15}{16}$ का महत्तम समापवर्तक (HCF) क्या है?

Ans 1. $\frac{1}{24}$

2. $\frac{1}{48}$

3. $\frac{1}{36}$

4. $\frac{1}{12}$

Question ID : 26433079819

Status : Answered

Chosen Option : 2

Q.7 एक खिलौना अर्धगोले पर लगे एक शंकु के आकार का है। अर्धगोले की त्रिज्या और शंकु की त्रिज्या 7 cm है और शंकु की ऊंचाई 5 cm है। खिलौने का कुल पृष्ठीय क्षेत्रफल ज्ञात कीजिये। ($\pi = \frac{22}{7}$ लें) (दशमलव के दो स्थानों तक पूर्णांकित)

Ans 1. 2666.85 cm²

2. 2648.81 cm²

3. 497.25 cm²

4. 486.65 cm²

Question ID : 26433083088

Status : Not Answered

Chosen Option : --

Q.8 एक कार 240 मिनट में 1080 km की दूरी तय करती है। कार की चाल m/sec में ज्ञात करें?

- Ans
- 1. 81
 - 2. 70
 - 3. 55
 - 4. 75

Question ID : 26433071234
Status : Answered
Chosen Option : 4

Q.9 किसी शहर की जनसंख्या 5% वार्षिक दर से बढ़ रही है। 2 वर्ष बाद शहर की जनसंख्या कितनी होगी, यदि वर्तमान जनसंख्या 16000 है?

- Ans
- 1. 17960
 - 2. 16960
 - 3. 16560
 - 4. 17640

Question ID : 26433082405
Status : Answered
Chosen Option : 4

Q.10 किसी शंकु का आयतन ज्ञात कीजिए, जिसके आधार की त्रिज्या 21 cm और ऊँचाई 20 cm है। (मान लीजिए $\pi = \frac{22}{7}$.)

- Ans
- 1. 9240 cm³
 - 2. 9420 cm³
 - 3. 8840 cm³
 - 4. 9204 cm³

Question ID : 26433075253
Status : Answered
Chosen Option : 1

Q.11 A, B और C मिलकर एक कार्य को 40/3 दिनों में पूरा कर सकते हैं। तीनों ने मिलकर इस पर काम करना शुरू किया और 5 दिन बाद A ने काम छोड़ दिया। फिर B और C ने मिलकर शेष काम को 17 दिनों में पूरा किया। दिनों की संख्या (लगभग) ज्ञात करें जिसमें A अकेला कुल कार्य पूरा कर सकता है।

- Ans
- 1. 24 दिन
 - 2. 26 दिन
 - 3. 44 दिन
 - 4. 29 दिन

Question ID : 264330116870
Status : Not Answered
Chosen Option : --

Q.12 A और B मिलकर एक कार्य को 30 दिनों में पूरा कर सकते हैं। उन्होंने 20 दिनों तक एक साथ कार्य किया और फिर B चला गया। अन्य 20 दिनों के बाद A ने शेष कार्य को पूरा किया। A अकेले पूरे कार्य को कितने दिनों में पूरा कर सकता है?

- Ans 1. 60
 2. 62
 3. 66
 4. 56

Question ID : 26433075166
Status : Answered
Chosen Option : 1

Q.13 $(x + y)^4$ और $(x - y)^4$ का मध्यानुपाती ज्ञात कीजिए।

- Ans 1. $(x^2 - y^2)^4$
 2. $(x^2 - y^2)^3$
 3. $(x^2 - y^2)^2$
 4. $(x^2 - y^2)$

Question ID : 26433075552
Status : Answered
Chosen Option : 3

Q.14 पहली संख्या का 75% दूसरी संख्या के 60% के बराबर है। पहली संख्या तथा दूसरी संख्या का अनुपात क्या है?

- Ans 1. 2 : 3
 2. 3 : 4
 3. 4 : 5
 4. 1 : 2

Question ID : 26433082788
Status : Answered
Chosen Option : 3

Q.15 ओम ने पिछले वर्ष की तुलना में अपनी बेकरी के लिए 12 प्रतिशत अधिक बाजरा आटा मंगवाने का निर्णय लिया। यदि उसने पिछले वर्ष 240 kg आर्डर किया था, तो उसे इस वर्ष कितनी मात्रा में बाजरे का आटा मंगवाना चाहिए?

- Ans 1. 272.2 kg
 2. 258.8 kg
 3. 268.8 kg
 4. 252.2 kg

Question ID : 264330116790
Status : Answered
Chosen Option : 3

Q.16 एक अलमारी Rs.14,360 में लाई गई और इसके परिवहन पर Rs.240 खर्च किए गए। 15% का लाभ प्राप्त करने के लिए इसे किस कीमत पर बेचा जाना चाहिए?

- Ans
- 1. Rs.16,800
 - 2. Rs.16,780
 - 3. Rs.16,770
 - 4. Rs.16,790

Question ID : 26433066359
Status : Answered
Chosen Option : 4

Q.17 किसी कारखाने में सभी श्रमिकों का औसत वेतन Rs.3,000 है। इन श्रमिकों में 12 उच्च अधिकारी हैं और उनका औसत वेतन Rs.12,000 है। शेष श्रमिकों का औसत वेतन Rs.2,500 है। श्रमिकों की कुल संख्या ज्ञात कीजिए।

- Ans
- 1. 216
 - 2. 204
 - 3. 228
 - 4. 200

Question ID : 26433091894
Status : Not Answered
Chosen Option : --

Q.18 एक चादर का अंकित मूल्य उसके लागत मूल्य से 14 प्रतिशत अधिक है। यदि अंकित मूल्य पर 14 प्रतिशत की छूट दी जाती है। लाभ या हानि प्रतिशत क्या है?

- Ans
- 1. 1.82 प्रतिशत हानि
 - 2. 1.64 प्रतिशत लाभ
 - 3. 1.44 प्रतिशत लाभ
 - 4. 1.96 प्रतिशत हानि

Question ID : 264330116755
Status : Answered
Chosen Option : 4

Q.19 12, 15 और 25 से विभाज्य 6 अंकीय सबसे छोटी संख्या को 9 से विभाजित किया जाता है तो शेषफल ज्ञात करें।

- Ans
- 1. 0
 - 2. 2
 - 3. 1
 - 4. 3

Question ID : 264330116653
Status : Answered
Chosen Option : 4

Q.20 18 और 32 के बीच का मध्यानुपाती ज्ञात करें।

Ans 1. 24

2. 20

3. 22

4. 25

Question ID : 26433082389

Status : Answered

Chosen Option : 1

Section : Part-D-English

Q.1 Select the most appropriate meaning of the given idiom.

To put a spoke in one's wheel

Ans 1. To receive cold reception

2. Narrating a false story

3. To leave someone without any provision

4. To thwart someone in execution of one's design

Question ID : 26433073875

Status : Not Answered

Chosen Option : --

Q.2 Select the most appropriate ANTONYM of the given word.

Significant

Ans 1. Idle

2. Paltry

3. Prominent

4. Distinct

Question ID : 26433072212

Status : Not Answered

Chosen Option : --

Q.3 Select the most appropriate ANTONYM of the given word.

Confident

Ans 1. Bold

2. Cowardly

3. Carefree

4. Undaunted

Question ID : 26433089033

Status : Not Answered

Chosen Option : --

Q.4 Select the most appropriate option that can substitute the underlined segment in the given sentence. If there is no need to substitute it, select 'No substitution'.
I went there to say goodbye to him but he refuse to meet me.

- Ans
- 1. No substitution
 - 2. he refused in meeting me
 - 3. he has refused to meet me
 - 4. he refused to meet me

Question ID : 26433093073
Status : Not Answered
Chosen Option : --

Q.5 Select the most appropriate option that can substitute the underlined segment in the given sentence. If there is no need to substitute it, select 'No substitution'.

The farmer has been work since 8 a.m. today and he's not completed the work yet.

- Ans
- 1. No substitution
 - 2. had working
 - 3. has been working
 - 4. is been working

Question ID : 26433088739
Status : Not Answered
Chosen Option : --

Q.6 Select the most appropriate option to fill in the blank.

The garbage _____ empties into a big bin.

- Ans
- 1. should
 - 2. shook
 - 3. shoot
 - 4. chute

Question ID : 26433090390
Status : Not Answered
Chosen Option : --

Q.7 Select the most appropriate synonym of the given word.

Aghast

- Ans
- 1. Pacified
 - 2. Horrified
 - 3. Inspired
 - 4. Mystified

Question ID : 26433073979
Status : Not Answered
Chosen Option : --

Q.8 Select the most appropriate **ANTONYM** of the given word.

Transient

- Ans** 1. Perishable
 2. Permanent
 3. Temporary
 4. Delicate

Question ID : **26433074051**
Status : **Not Answered**
Chosen Option : --

Q.9 Select the correct pair of words for the blanks in the given sentence.

Computer has a _____ memory and my father prefers _____ to digital payments.

- Ans** 1. cache; cash
 2. cash; cache
 3. cash; cash
 4. cache; cache

Question ID : **26433060548**
Status : **Not Answered**
Chosen Option : --

Q.10 Select the most appropriate meaning of the given idiom.

Hang in there

- Ans** 1. Don't rake up a controversy
 2. A wise decision
 3. Don't give up
 4. Overcoming joy

Question ID : **26433073993**
Status : **Not Answered**
Chosen Option : --

Q.11 Select the **INCORRECTLY** spelt word.

- Ans** 1. License
 2. Exklusive
 3. Lament
 4. Juggle

Question ID : **26433073734**
Status : **Not Answered**
Chosen Option : --

Q.12 Select the INCORRECTLY spelt word.

- Ans 1. Necessity
 2. Weather
 3. Modest
 4. Knowledge

Question ID : 26433073725
Status : Not Answered
Chosen Option : --

Q.13 Select the most appropriate option to fill in the blank.
We _____ the mathematical issue with zest and vigour.

- Ans 1. settled
 2. solved
 3. remedied
 4. cleared up

Question ID : 26433091725
Status : Not Answered
Chosen Option : --

Q.14 The following sentence has been split into four segments. Identify the segment that contains a grammatical error.

I am give / a speech on / emerging economic dynamics / in the program.

- Ans 1. emerging economic dynamics
 2. in the program
 3. I am give
 4. a speech on

Question ID : 26433094741
Status : Not Answered
Chosen Option : --

Q.15 Select the most appropriate synonym of the underlined word in the following sentence.

One should enjoy liberty with duties in mind.

- Ans 1. Statue
 2. Freedom
 3. Democracy
 4. Meal

Question ID : 26433072354
Status : Not Answered
Chosen Option : --

Comprehension:

In the following passage, some words have been deleted. Read the passage carefully and select the most appropriate option to fill in each blank.

A lot of research has (1)_____ that reptiles and amphibians are cold-blooded (2)_____. By the term cold-blooded animals, we (3)_____ that they cannot control their body temperature like we can. A reptile's skin is dry and scaly, (4)_____ the skin of an amphibian is wet and smooth. Most reptiles spend much of their time (5)_____ on land. Most amphibians live in or around water.

SubQuestion No : 16

Q.16 Select the most appropriate option to fill in blank number 1.

- Ans 1. spread
 2. tell
 3. proved
 4. talked

Question ID : 26433089035
Status : Not Answered
Chosen Option : --

Comprehension:

In the following passage, some words have been deleted. Read the passage carefully and select the most appropriate option to fill in each blank.

A lot of research has (1)_____ that reptiles and amphibians are cold-blooded (2)_____. By the term cold-blooded animals, we (3)_____ that they cannot control their body temperature like we can. A reptile's skin is dry and scaly, (4)_____ the skin of an amphibian is wet and smooth. Most reptiles spend much of their time (5)_____ on land. Most amphibians live in or around water.

SubQuestion No : 17

Q.17 Select the most appropriate option to fill in blank number 2.

- Ans 1. birds
 2. organisms
 3. plants
 4. animals

Question ID : 26433089036
Status : Not Answered
Chosen Option : --

Comprehension:

In the following passage, some words have been deleted. Read the passage carefully and select the most appropriate option to fill in each blank.

A lot of research has (1)_____ that reptiles and amphibians are cold-blooded (2)_____. By the term cold-blooded animals, we (3)_____ that they cannot control their body temperature like we can. A reptile's skin is dry and scaly, (4)_____ the skin of an amphibian is wet and smooth. Most reptiles spend much of their time (5)_____ on land. Most amphibians live in or around water.

SubQuestion No : 18

Q.18 Select the most appropriate option to fill in blank number 3.

- Ans
- 1. express
 - 2. designate
 - 3. intent
 - 4. mean

Question ID : 26433089037

Status : Not Answered

Chosen Option : --

Comprehension:

In the following passage, some words have been deleted. Read the passage carefully and select the most appropriate option to fill in each blank.

A lot of research has (1)_____ that reptiles and amphibians are cold-blooded (2)_____. By the term cold-blooded animals, we (3)_____ that they cannot control their body temperature like we can. A reptile's skin is dry and scaly, (4)_____ the skin of an amphibian is wet and smooth. Most reptiles spend much of their time (5)_____ on land. Most amphibians live in or around water.

SubQuestion No : 19

Q.19 Select the most appropriate option to fill in blank number 4.

- Ans
- 1. conversely
 - 2. similarly
 - 3. contrary
 - 4. whereas

Question ID : 26433089038

Status : Not Answered

Chosen Option : --

Comprehension:

In the following passage, some words have been deleted. Read the passage carefully and select the most appropriate option to fill in each blank.

A lot of research has (1)_____ that reptiles and amphibians are cold-blooded (2)_____. By the term cold-blooded animals, we (3)_____ that they cannot control their body temperature like we can. A reptile's skin is dry and scaly, (4)_____ the skin of an amphibian is wet and smooth. Most reptiles spend much of their time (5)_____ on land. Most amphibians live in or around water.

SubQuestion No : 20

Q.20 Select the most appropriate option to fill in blank number 5.

- Ans 1. jumping
 2. crawling
 3. dragging
 4. walking

Question ID : 26433089039

Status : Not Answered

Chosen Option : --

Section : Part-D-Hindi

Q.1 उसने मेरे साथ गद्देदारी की है।
उपरोक्त वाक्य के किस भाग में अशुद्धि है?

- Ans 1. मेरे साथ
 2. की है।
 3. उसने
 4. गद्देदारी

Question ID : 26433079760

Status : Answered

Chosen Option : 4

Q.2 निम्न वाक्य में रेखांकित शब्द को विकल्पों में दिए गए शब्दों में से उपयुक्त शब्द से बदलें।
मैं आशा करूँगा कि समय पर आपके पास पहुँच जाऊँ।

- Ans 1. प्रत्याशा
 2. चेष्टा
 3. उत्कंठा
 4. चिंता

Question ID : 26433062872

Status : Answered

Chosen Option : 3

Q.3 मैं गेंदे की जगह नलिन के फूल देवी को अर्पित करूँगी।
उपरोक्त वाक्य में रेखांकित शब्द का पर्यायवाची क्या होगा?

- Ans 1. जुही
 2. कमल
 3. पुष्प
 4. केसर

Question ID : 26433080852
Status : Answered
Chosen Option : 1

Q.4 मुहावरों और उनके अर्थ का निम्न में से कौन सा एक युग्म सही है?

- Ans 1. बालू से तेल निकालना-असंभव को संभव करना
 2. रंग बदलना-अपरिवर्तनशील होना
 3. मन मैला करना-अत्यधिक प्रसन्न होना
 4. माथा ठनकना-खुशामद करना

Question ID : 26433062560
Status : Answered
Chosen Option : 1

Q.5 दिए गए वाक्य में रेखांकित अंश के स्थान पर सबसे उपयुक्त शब्द निम्न में से कौन-सा होगा?
लोग बड़ी मात्रा में जमा हो गए।

- Ans 1. भीड़
 2. संख्या
 3. परिमाण
 4. मात्र

Question ID : 26433072582
Status : Answered
Chosen Option : 2

Q.6 निम्नलिखित वाक्य के रिक्तस्थानों की पूर्ति उपयुक्त एकार्थी शब्द-युग्म द्वारा कीजिए।
आदमी की _____ उसे सफल बनती है, वहीं सफलता उसका _____-योग है।

- Ans 1. शुभ मुहूर्त-नतीजा
 2. दीपक-रोशनी
 3. लगन-लग्न
 4. ताजा-समान

Question ID : 26433091325
Status : Answered
Chosen Option : 3

Q.7 नीचे दिए वाक्यांश के लिए उचित शब्द दिए गए विकल्पों में से चुनिए-
जो सबके आगे रहता हो

- Ans
- 1. अग्रिम
 - 2. अग्रज
 - 3. अग्रगण्य
 - 4. अग्रणी

Question ID : 26433062385
Status : Answered
Chosen Option : 4

Q.8 निम्नलिखित में से अशुद्ध वाक्य कौन-सा है?

- Ans
- 1. मनुष्य स्वभावतः अकेलापन पसंद नहीं करता।
 - 2. विकास के सूत्र मानव के हाथ में हैं।
 - 3. देश में सर्वस्व शांति होना चाहिए।
 - 4. मनुष्यता मनुष्य की अमूल्य निधि है।

Question ID : 26433066990
Status : Answered
Chosen Option : 2

Q.9 निम्नलिखित विकल्पों में से किस एक वाक्य में संख्यावाचक विशेषण का उचित प्रयोग नहीं किया गया है?

- Ans
- 1. यह किसका खरगोश है?
 - 2. दिल्ली के पास यमुना में जरा-सा पानी है।
 - 3. मेरी गाय थोड़ा दूध देती है।
 - 4. गौरव के पास थोड़ी-सी भूमि बची हुई है।

Question ID : 26433062965
Status : Not Answered
Chosen Option : --

Q.10 "यह उसके जीवन की प्रमुख घटना थी।" इस वाक्य में प्रयुक्त शब्द 'प्रमुख' के स्थान पर उसके विलोम शब्द का प्रयोग निम्न में से किस वाक्य में किया गया है?

- Ans
- 1. यह उसके जीवन की गौण घटना थी।
 - 2. यह उसके जीवन की महत्वपूर्ण घटना थी।
 - 3. यह उसके जीवन की विशिष्ट घटना थी।
 - 4. यह उसके जीवन की क्षीण घटना थी।

Question ID : 26433067026
Status : Answered
Chosen Option : 4

Q.11 निम्न वाक्यांश के लिए विकल्पों में से उपयुक्त शब्द चुनें।
ऊँट पर रखकर चलायी जाने वाली तोप

- Ans
- 1. बंदूक
 - 2. शरासन
 - 3. मुकुल
 - 4. सुतुरनाल

Question ID : 2643306993
Status : Answered
Chosen Option : 2

Q.12 'जो देखने योग्य न हो' वाक्यांश के लिए उचित शब्द बताइए -

- Ans
- 1. अवर्णीय
 - 2. अप्रत्यक्ष
 - 3. अदर्शनीय
 - 4. अदृश्य

Question ID : 26433065902
Status : Answered
Chosen Option : 3

Q.13 विलोम शब्दों का निम्न में से कौन-सा युग्म सुमेलित नहीं है?

- Ans
- 1. अपना-पराया
 - 2. आस्था-अनास्था
 - 3. आकाश-पाताल
 - 4. अग्नि-आग

Question ID : 26433067091
Status : Answered
Chosen Option : 4

Q.14 निम्नलिखित विकल्पों में से कौन सा एक वाक्य क्रिया-विशेषण से सम्बन्ध रखता है?

- Ans
- 1. वह खड़ा है।
 - 2. बच्चे दौड़ते हैं।
 - 3. सीता यहाँ आ रही है।
 - 4. गाय चरती है।

Question ID : 26433062949
Status : Answered
Chosen Option : 3

Q.15 'आँखों में धूल झोंकना' मुहावरे का उचित अर्थ है-

- Ans 1. धोखा देना
 2. ध्यान न देना
 3. कुछ न देखना
 4. इशारा करना

Question ID : 26433065878

Status : Answered

Chosen Option : 1

Comprehension:

निम्नलिखित गद्यांश में कुछ शब्दों को हटा दिया गया है। दिए गए विकल्पों की सहायता से रिक्त स्थानों की पूर्ति कीजिए। प्रत्येक संख्या के लिए सबसे उपयुक्त विकल्प का चयन कीजिए।

आज घर-घर बाँटे जाने वाले समाचार पत्र से लगभग सभी की 1. _____ प्रारंभ होती है। यह हमारे जीवन की 2. _____ आवश्यकता बन गया है। किसी कारणवश यदि इसे पढ़ने का 3. _____ नहीं मिलता तो ऐसा प्रतीत होता है कि मानो कोई बड़ा और महत्वपूर्ण कार्य छूट गया है। समाचार पत्र से घर बैठे ही बहुत ही कम पैसों में देश-विदेश का 4. _____ प्राप्त हो जाता है। यह सभी प्रकार के समाचार और जनता के मध्य 5. _____ का कार्य करता है।

SubQuestion No : 16

Q.16 रिक्त स्थान 1 की पूर्ति के लिए सबसे उपयुक्त विकल्प का चयन कीजिए।

- Ans 1. आवश्यकता
 2. दिनचर्या
 3. कुशलता
 4. छुट्टियाँ

Question ID : 264330111113

Status : Answered

Chosen Option : 2

Comprehension:

निम्नलिखित गद्यांश में कुछ शब्दों को हटा दिया गया है। दिए गए विकल्पों की सहायता से रिक्त स्थानों की पूर्ति कीजिए। प्रत्येक संख्या के लिए सबसे उपयुक्त विकल्प का चयन कीजिए।

आज घर-घर बाँटे जाने वाले समाचार पत्र से लगभग सभी की 1. _____ प्रारंभ होती है। यह हमारे जीवन की 2. _____ आवश्यकता बन गया है। किसी कारणवश यदि इसे पढ़ने का 3. _____ नहीं मिलता तो ऐसा प्रतीत होता है कि मानो कोई बड़ा और महत्वपूर्ण कार्य छूट गया है। समाचार पत्र से घर बैठे ही बहुत ही कम पैसों में देश-विदेश का 4. _____ प्राप्त हो जाता है। यह सभी प्रकार के समाचार और जनता के मध्य 5. _____ का कार्य करता है।

SubQuestion No : 17

Q.17 रिक्त स्थान 2 की पूर्ति के लिए सबसे उपयुक्त विकल्प का चयन कीजिए।

- Ans 1. दैनिक
 2. नैतिक
 3. उपद्रव
 4. प्रमाणिक

Question ID : 264330111114

Status : Answered

Chosen Option : 1

Comprehension:

निम्नलिखित गद्यांश में कुछ शब्दों को हटा दिया गया है। दिए गए विकल्पों की सहायता से रिक्त स्थानों की पूर्ति कीजिए। प्रत्येक संख्या के लिए सबसे उपयुक्त विकल्प का चयन कीजिए।
आज घर-घर बाँटे जाने वाले समाचार पत्र से लगभग सभी की 1. _____ प्रारंभ होती है। यह हमारे जीवन की 2. _____ आवश्यकता बन गया है। किसी कारणवश यदि इसे पढ़ने का 3. _____ नहीं मिलता तो ऐसा प्रतीत होता है कि मानो कोई बड़ा और महत्वपूर्ण कार्य छूट गया है। समाचार पत्र से घर बैठे ही बहुत ही कम पैसों में देश-विदेश का 4. _____ प्राप्त हो जाता है। यह सभी प्रकार के समाचार और जनता के मध्य 5. _____ का कार्य करता है।

SubQuestion No : 18

Q.18 रिक्त स्थान 3 की पूर्ति के लिए सबसे उपयुक्त विकल्प का चयन कीजिए।

- Ans
- 1. दबाव
 - 2. मन
 - 3. अवसर
 - 4. महत्त्व

Question ID : 264330111115

Status : Answered

Chosen Option : 3

Comprehension:

निम्नलिखित गद्यांश में कुछ शब्दों को हटा दिया गया है। दिए गए विकल्पों की सहायता से रिक्त स्थानों की पूर्ति कीजिए। प्रत्येक संख्या के लिए सबसे उपयुक्त विकल्प का चयन कीजिए।
आज घर-घर बाँटे जाने वाले समाचार पत्र से लगभग सभी की 1. _____ प्रारंभ होती है। यह हमारे जीवन की 2. _____ आवश्यकता बन गया है। किसी कारणवश यदि इसे पढ़ने का 3. _____ नहीं मिलता तो ऐसा प्रतीत होता है कि मानो कोई बड़ा और महत्वपूर्ण कार्य छूट गया है। समाचार पत्र से घर बैठे ही बहुत ही कम पैसों में देश-विदेश का 4. _____ प्राप्त हो जाता है। यह सभी प्रकार के समाचार और जनता के मध्य 5. _____ का कार्य करता है।

SubQuestion No : 19

Q.19 रिक्त स्थान 4 की पूर्ति के लिए सबसे उपयुक्त विकल्प का चयन कीजिए।

- Ans
- 1. प्रमाण
 - 2. प्यार
 - 3. परिणाम
 - 4. समाचार

Question ID : 264330111116

Status : Answered

Chosen Option : 4

Comprehension:

निम्नलिखित गद्यांश में कुछ शब्दों को हटा दिया गया है। दिए गए विकल्पों की सहायता से रिक्त स्थानों की पूर्ति कीजिए। प्रत्येक संख्या के लिए सबसे उपयुक्त विकल्प का चयन कीजिए।

आज घर-घर बाँटे जाने वाले समाचार पत्र से लगभग सभी की 1. _____ प्रारंभ होती है। यह हमारे जीवन की 2. _____ आवश्यकता बन गया है। किसी कारणवश यदि इसे पढ़ने का 3. _____ नहीं मिलता तो ऐसा प्रतीत होता है कि मानो कोई बड़ा और महत्वपूर्ण कार्य छूट गया है। समाचार पत्र से घर बैठे ही बहुत ही कम पैसों में देश-विदेश का 4. _____ प्राप्त हो जाता है। यह सभी प्रकार के समाचार और जनता के मध्य 5. _____ का कार्य करता है।

SubQuestion No : 20

Q.20 रिक्त स्थान 5 की पूर्ति के लिए सबसे उपयुक्त विकल्प का चयन कीजिए।

- Ans 1. सेतु
 2. आदर्श
 3. उपयोगिता
 4. साथ

Question ID : 264330111117

Status : Answered

Chosen Option : 1

KD Job Updates

Constable GD in CAPFs SSF Rifleman GD in Assam Rifles and Sepoy in NCB Examination 2022

Roll Number	KD Job Updates
Candidate Name	KD Job Updates
Venue Name	iON Digital Zone iDZ 2 Patliputra
Exam Date	13/01/2023
Exam Time	5:15 PM - 6:15 PM
Subject	Constable GD Examination 2022

Section : Part-A-General Intelligence and Reasoning

Q.1 एक निश्चित कूट भाषा में, 'MANTLE' को 'JZKGIV' और 'TINKER' को 'QRKPBI' के रूप में लिखा जाता है। उसी कूट भाषा में 'DERIVE' को किस प्रकार से लिखा जाएगा?

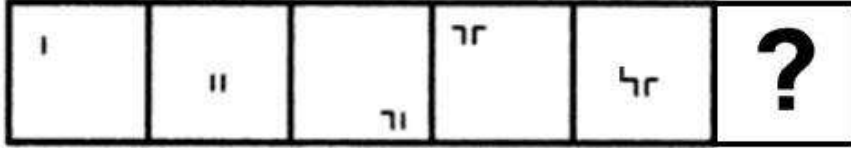
- Ans
- 1. AUORST
 - 2. AVORSV
 - 3. KCQTUM
 - 4. KBORSN

Question ID : 26433069464

Status : Answered

Chosen Option : 1

Q.2 दिए गए विकल्पों में से उस आकृति का चयन करें जो निम्नलिखित श्रृंखला में प्रश्नवाचक चिह्न (?) का स्थान ले सकती है।



Ans

✗ 1.



✓ 2.



✗ 3.



✗ 4.



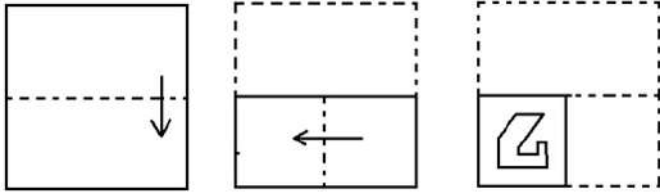
Question ID : 26433080492

Status : Answered

Chosen Option : 2

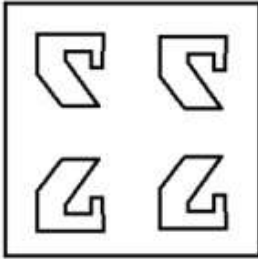
KD Job Updates

Q.3 एक कागज को मोड़ने का क्रम और मुड़े हुए कागज को काटने का तरीका नीचे दर्शाया गया है। उस आकृति का चयन करें जो कागज को खोले जाने पर उसके खुले रूप से सबसे अधिक मिलती-जुलती है।




Ans


✗ 1.



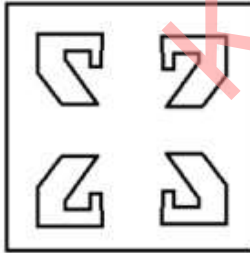
✗ 2.



✗ 3.



✓ 4.



Question ID : 26433087093
 Status : Answered
 Chosen Option : 4

Q.4 छः विद्यार्थी एक वृत्ताकार मेज के परितः मेज के केंद्र की ओर मुख करके बैठे हैं। शर्ली, लीना के दाईं ओर दूसरे स्थान पर बैठी है। डिआना, शर्ली के दाईं ओर पाँचवें स्थान पर बैठी है। वॉयलेट, डिआना के दाईं ओर तीसरे स्थान पर बैठा है। अब्दुल, डिआना के बाईं ओर दूसरे स्थान पर बैठा है। विक्रम, लीना के बाईं ओर तीसरे स्थान पर बैठा है। विक्रम और डिआना के बीच में कौन बैठा है?

- Ans 1. वॉयलेट
 2. शर्ली
 3. लीना
 4. अब्दुल

Question ID : 26433081779
 Status : Answered
 Chosen Option : 2





Q.5 गणितीय चिह्नों के उस सही संयोजन का चयन कीजिए जिसे (*) चिह्नों के स्थान पर क्रमानुसार रखने पर दिया गया समीकरण संतुलित हो जाएगा।
 $30 * 2 * 20 * 13 * 67$

- Ans 1. ×, ÷, +, =
 2. ÷, +, -, =
 3. ×, -, +, =
 4. ×, +, -, =

Question ID : 26433085687
 Status : Answered
 Chosen Option : 4

Q.6 दी गई आकृति के सही दर्पण प्रतिबिम्ब का चयन करें जब दर्पण को MN पर रखा जाए जैसा कि नीचे दर्शाया गया है।

fORmuLAtiOn 

- Ans 1. 
 2. 
 3. 
 4. 

Question ID : 26433085549
 Status : Answered
 Chosen Option : 3

Q.7 उस विकल्प का चयन करें, जो तीसरे शब्द से उसी प्रकार संबंधित है, जिस प्रकार दूसरा शब्द पहले शब्द से संबंधित है।
(शब्दों को अर्थपूर्ण अंग्रेजी/हिंदी शब्दों के रूप में माना जाना चाहिए और इन्हें शब्द में अक्षरों की संख्या / व्यंजनों की संख्या / स्वरों की संख्या के आधार पर एक दूसरे से संबद्ध नहीं किया जाना चाहिए।)
पेंटर : ब्रश :: माली : ?

- Ans
- 1. रेंच
 - 2. स्पिनर
 - 3. रेक
 - 4. ट्रैक्टर

Question ID : 26433079469
Status : Not Answered
Chosen Option : --

Q.8 निम्नलिखित में से कौन-सी संख्या दी गई श्रृंखला में प्रश्न-चिह्न (?) को प्रतिस्थापित करेगी?
589, 588, 583, ?, 433, -192

- Ans
- 1. 560
 - 2. 565
 - 3. 544
 - 4. 558

Question ID : 26433069396
Status : Answered
Chosen Option : 4

Q.9 एक निश्चित कूट भाषा में,
'A + B' का अर्थ है कि 'A, B की बहन है',
'A - B' का अर्थ है कि 'A, B का पिता है',
'A x B' का अर्थ है कि 'A, B का भाई है' और
'A & B' का अर्थ है कि 'A, B का पुत्र है'.
यदि T + Q - R x H & G है तो, T का G से क्या संबंध है?

- Ans
- 1. ननद
 - 2. मौसी
 - 3. बेटी
 - 4. बहन

Question ID : 26433070367
Status : Answered
Chosen Option : 1

Q.10 नीचे दिए गए समीकरण को गणितीय रूप से सही बनाने के लिए किन दो चिन्हों को परस्पर बदलना चाहिए?

$$54 \times 6 - 36 \div 12 + 27 = 24$$

- Ans
- 1. + और +
 - 2. + और x
 - 3. + और -
 - 4. - और +

Question ID : 264330117520
Status : Answered
Chosen Option : 3

Q.11 सात व्यक्ति A, B, C, D, E, F और G एक सीधी पंक्ति में उत्तर की ओर मुख करके बैठे हैं। A बाईं ओर से दूसरे स्थान पर बैठा है। A और C के बीच केवल दो व्यक्ति बैठे हैं। D और F के बीच केवल तीन व्यक्ति बैठे हैं, और D, A के ठीक बगल में है। B, D के ठीक बगल में है, और E, C के ठीक बगल में नहीं है। C के दाईं ओर ठीक बगल में कौन बैठा है?

- Ans
- 1. B
 - 2. G
 - 3. D
 - 4. F

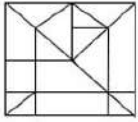
Question ID : 26433056935
Status : Answered
Chosen Option : 2

Q.12 निम्नलिखित में से कौन-सी संख्या दी गई श्रृंखला में प्रश्न-चिह्न (?) के स्थान पर आएगी?
0, 6, 24, 60, 120, ?

- Ans
- 1. 210
 - 2. 220
 - 3. 190
 - 4. 240

Question ID : 26433082000
Status : Answered
Chosen Option : 1

Q.13 उस विकल्प आकृति का चयन करें जो दी गई आकृति में अंतर्निहित है (घुमाने की अनुमति नहीं है)।



Ans

- 1.
- 2.
- 3.
- 4.

Question ID : 26433069485
Status : Answered
Chosen Option : 2

Q.14 किस विकल्प में निम्नलिखित शब्दों का वह क्रम दिया गया है, जिस क्रम में वे अंग्रेजी शब्दकोश में आते हैं?

- 1 naughty
- 2 natural
- 3 national
- 4 nagging
- 5 napping

- Ans
- 1. 3,4,2,1,5
 - 2. 5,4,3,2,1
 - 3. 4,5,3,2,1
 - 4. 4,5,1,2,3

Question ID : 26433069315

Status : Answered

Chosen Option : 3

Q.15 कौन-सा अक्षर-समूह दी गई श्रृंखला में प्रश्नचिह्न (?) के स्थान पर आकर श्रृंखला को पूर्ण करेगा?
DKLX, EMOU, FORR, ?, HSXL

- Ans
- 1. GQTO
 - 2. GQTP
 - 3. GQUP
 - 4. GQUO

Question ID : 26433068572

Status : Answered

Chosen Option : 4

Q.16 तीन कथनों के बाद तीन निष्कर्ष I, II और III दिए गए हैं। कथनों को सत्य मानते हुए, भले ही वे सामान्य रूप से ज्ञात तथ्यों से भिन्न प्रतीत होते हों, निर्धारित करें कि कौन-सा/से निष्कर्ष, कथनों का तार्किक रूप से अनुसरण करता है/करते हैं।

कथन:

- सभी बिस्तर टेबल हैं।
- सभी खाट टेबल हैं।
- सभी टेबल नल हैं।

निष्कर्ष:

- I. सभी खाट नल हैं।
- II. कुछ नल बिस्तर हैं।
- III. कुछ नल खाट हैं।

- Ans
- 1. केवल निष्कर्ष I और II अनुसरण करते हैं
 - 2. केवल निष्कर्ष I और III अनुसरण करते हैं
 - 3. सभी निष्कर्ष अनुसरण करते हैं
 - 4. केवल निष्कर्ष II और III अनुसरण करते हैं

Question ID : 26433082315

Status : Answered

Chosen Option : 2

Q.17 उस विकल्प का चयन करें जो तीसरी संख्या से उसी प्रकार संबंधित है जिस प्रकार दूसरी संख्या पहली संख्या से संबंधित है और छठवीं संख्या पाँचवीं संख्या से संबंधित है।
7 : 1000 :: 4 : ? :: 12 : 3375

Ans 1. 144

2. 194

3. 343

4. 282

Question ID : 26433069188

Status : Answered

Chosen Option : 3

Q.18 उस विकल्प का चयन करें जो पाँचवें पद से उसी तरह से संबंधित है, जिस तरह से दूसरा पद पहले पद से संबंधित है और चौथा पद तीसरे पद से संबंधित है।
SECURITY : 19ECURIT25 :: ENHANCED : 5NHANCE4 :: USAGE : ?

Ans 1. 21SAG5

2. 5USAG3

3. 2343AG

4. 1USAGE3

Question ID : 26433067263

Status : Answered

Chosen Option : 1

Q.19 एक कूट भाषा में 'dark colors' को 'yu nu', 'days are bright' को 'wu tu ku', 'nights are dark' को 'ku nu pu', 'paint bright' को 'wu ru' के रूप में कूटबद्ध किया जाता है। शब्द 'paint' के लिए कूट क्या होगा?

Ans 1. ru

2. ku

3. wu

4. tu

Question ID : 26433082274

Status : Answered

Chosen Option : 1

Q.20 दिए गए विकल्पों में से उस अक्षर-समूह का चयन कीजिए जो निम्न श्रृंखला में प्रश्न-चिह्न (?) के स्थान पर आ सकता है।
YCLE, DWQJ, IQVO, ?, SEFY

Ans 1. NHKR

2. NKAT

3. HLAW

4. HDLA

Question ID : 26433074748

Status : Answered

Chosen Option : 2

Q.1 गुणकांत दत्ता बोरबयान को किस नृत्य शैली के लिए संगीत नाटक अकादमी पुरस्कार से सम्मानित किया गया है?

- Ans
- 1. छऊ
 - 2. सत्रीया
 - 3. कथक
 - 4. कथकली

Question ID : 264330115865
Status : Not Answered
Chosen Option : --

Q.2 कावेरी डेल्टा में मुत्तैयार की सत्ता थी। वे _____ के पल्लव राजाओं के अधीनस्थ थे।

- Ans
- 1. कांचीपुरम
 - 2. तंजावुर
 - 3. मकोताई
 - 4. अरिकामेदु

Question ID : 26433085218
Status : Not Answered
Chosen Option : --

Q.3 तारामण्डल 'अर्समिजर', _____ के नाम से भी जाना जाता है।

- Ans
- 1. दी कीन
 - 2. दी ग्रेट बीयर
 - 3. दी हंटर
 - 4. दी चैनड मैडन

Question ID : 26433092213
Status : Not Answered
Chosen Option : --

Q.4 कार्यस्थल में महिलाओं के विरुद्ध यौन उत्पीड़न को रोकने और उनकी सुरक्षा के लिए, _____ POSH नीति की आवश्यकता को अनिवार्य करता है।

- Ans
- 1. "कार्यस्थल पर महिलाओं का यौन उत्पीड़न (रोकथाम, निषेध और निवारण) अधिनियम, 2013"
 - 2. "कार्यस्थल पर महिलाओं का यौन उत्पीड़न (संरक्षण, निषेध और निवारण) अधिनियम, 2014"
 - 3. "महिलाओं का यौन उत्पीड़न अधिनियम, 2015"
 - 4. "कार्यस्थल पर महिलाओं का यौन उत्पीड़न अधिनियम, 2019"

Question ID : 264330116211
Status : Not Answered
Chosen Option : --

Q.5 उस अम्ल की पहचान कीजिए जो जिंक को जिंक सल्फेट में परिवर्तित करता है।

- Ans 1. सल्फ्यूरिक अम्ल
 2. एसिटिक अम्ल
 3. नाइट्रिक अम्ल
 4. हाइड्रोक्लोरिक अम्ल

Question ID : 26433091477
Status : Answered
Chosen Option : 1

Q.6 अगस्त 2022 में, केंद्रीय सतर्कता आयुक्त (CVC) के रूप में किसने शपथ ली?

- Ans 1. संजय कोठारी
 2. प्रदीप कुमार
 3. शरद कुमार
 4. सुरेश पटेल

Question ID : 264330115010
Status : Not Answered
Chosen Option : --

Q.7 कोशिका की आत्मघाती थैलियां किसे कहा जाता है?

- Ans 1. लाइसोसोम
 2. पेरोक्सीसोम
 3. ग्लाइऑक्सीसोम
 4. तारककेंद्र

Question ID : 264330115244
Status : Answered
Chosen Option : 1

Q.8 चालिहा साहिब उत्सव के दौरान, सिंधी लोग भगवान झूलेलाल के प्रति अपनी श्रद्धा की अभिव्यक्ति के लिए _____-दिनों का उपवास रखते हैं।

- Ans 1. 10
 2. 20
 3. 40
 4. 30

Question ID : 264330115122
Status : Not Answered
Chosen Option : --

Q.9 मार्च 2022 में भारत के निम्नलिखित कांग्रेसी नेताओं में से कौन राज्य सभा से सेवानिवृत्त हुए?

- Ans
- 1. कुमारस्वामी कामराज
 - 2. पालनियप्पन चिदंबरम
 - 3. राहुल गांधी
 - 4. सुप्रिया सुले

Question ID : 264330114946
Status : Not Answered
Chosen Option : --

Q.10 6 से 14 वर्ष की आयु वर्ग के बच्चों के लिए अनिवार्य शिक्षा का प्रावधान किस संविधान संशोधन द्वारा किया गया?

- Ans
- 1. 85वें
 - 2. 86वें
 - 3. 82वें
 - 4. 83वें

Question ID : 264330115625
Status : Answered
Chosen Option : 2

Q.11 'संथाल' नामक जनजातीय समूह _____ में बसावत कर दी थी।

- Ans
- 1. 1876
 - 2. 1860
 - 3. 1896
 - 4. 1855

Question ID : 264330115714
Status : Answered
Chosen Option : 1

Q.12 किस टीम ने सबसे ज्यादा रणजी ट्रॉफी खिताब जीती है?

- Ans
- 1. कर्नाटक
 - 2. उत्तर प्रदेश
 - 3. मुंबई
 - 4. तमिलनाडु

Question ID : 26433092329
Status : Answered
Chosen Option : 3

Q.13 भारत में पहली फॉर्मूला 1 रेस _____ में आयोजित की गई थी।

- Ans
- 1. 2015
 - 2. 2013
 - 3. 2011
 - 4. 2012

Question ID : 264330116279
Status : Not Answered
Chosen Option : --

Q.14 उत्तर प्रदेश किस देश के साथ अपनी अंतर्राष्ट्रीय सीमा साझा करता है?

- Ans
- 1. नेपाल
 - 2. भूटान
 - 3. पाकिस्तान
 - 4. चीन

Question ID : 264330116103
Status : Answered
Chosen Option : 1

Q.15 भारत में अंतः स्थलीय नौसंचालन जलमार्ग _____ कि.मी. लंबा है।

- Ans
- 1. 13,600
 - 2. 12,500
 - 3. 11,000
 - 4. 14,500

Question ID : 264330115554
Status : Answered
Chosen Option : 1

Q.16 _____ को विकास का आधार माना जाता है।

- Ans
- 1. विनिर्माण उद्योग
 - 2. शिक्षा उद्योग
 - 3. बैंकिंग
 - 4. डेयरी उद्योग

Question ID : 264330115410
Status : Answered
Chosen Option : 1

Q.17 अप्रैल 2021 तक कितने राज्यों में विधान परिषद है?

- Ans
- 1. 5
 - 2. 6
 - 3. 4
 - 4. 7

Question ID : 26433086670
Status : Answered
Chosen Option : 2

Q.18 भारत में, माइक्रोफाइनेंस गतिविधियों को _____ के दशक के प्रारंभ में प्रमुखता मिली।

- Ans
- 1. 1950
 - 2. 1970
 - 3. 1990
 - 4. 1980

Question ID : 264330115307
Status : Not Answered
Chosen Option : --

Q.19 निम्नलिखित में से कौन सा नृत्य गोवा में किया जाता है?

- Ans
- 1. कर्मा नाच
 - 2. झूमर
 - 3. फुगड़ी
 - 4. चेराव

Question ID : 26433066530
Status : Not Answered
Chosen Option : --

Q.20 निम्नलिखित में से कौन सा उद्योग विशेष रूप से सार्वजनिक क्षेत्र में वस्तुओं के निर्माण के लिए आरक्षित है?

- Ans
- 1. परमाणु ऊर्जा
 - 2. शिक्षा
 - 3. चिकित्सा
 - 4. बीमा

Question ID : 26433064865
Status : Answered
Chosen Option : 1

Section : Part-C-Elementary Mathematics

Q.1 निम्न में से वह कौन सी संख्या है जिसमें 20 जोड़ने पर वह 18, 56 और 42 से पूर्णतः विभाजित हो जाती है?

- Ans
- 1. 504
 - 2. 524
 - 3. 514
 - 4. 484

Question ID : 26433080266
Status : Answered
Chosen Option : 4

Q.2 8 और 12 का तीसरा समानुपाती ज्ञात करें।

- Ans 1. 14
 2. 9
 3. 18
 4. 16

Question ID : 26433082392
Status : Answered
Chosen Option : 3

Q.3 एक सेब, एक संतरे और एक आम का औसत मूल्य Rs.36 है। एक सेब और एक संतरे का औसत मूल्य Rs.28 है तथा एक संतरे और एक आम का औसत मूल्य Rs.32 है। एक संतरे का मूल्य (Rs. में) क्या होगा?

- Ans 1. 18
 2. 16
 3. 12
 4. 24

Question ID : 26433075719
Status : Answered
Chosen Option : 3

Q.4 km/h में 35 m/s का मान क्या होगा?

- Ans 1. 96 km/h
 2. 144 km/h
 3. 106 km/h
 4. 126 km/h

Question ID : 26433075687
Status : Answered
Chosen Option : 4

Q.5 Rs.11,500 की धनराशि वार्षिक 5% की दर से चक्रवृद्धि ब्याज पर उधार ली जाती है जिसमें ब्याज वार्षिक रूप से चक्रवृद्धि है। 2 वर्ष बाद कितनी राशि का भुगतान करना होगा?

- Ans 1. Rs.12,678.75
 2. Rs.12,677.85
 3. Rs.12,678
 4. Rs.12,687.75

Question ID : 26433065090
Status : Answered
Chosen Option : 1

Q.6 यदि त्रिज्या R_1 इकाई वाले एक गोले का वक्र पृष्ठीय क्षेत्रफल, त्रिज्या R_2 वाले एक अन्य अर्धगोले के संपूर्ण पृष्ठीय क्षेत्रफल के बराबर है, तो R_2 का मान _____ होगा।

- Ans
- 1. $2R_1$
 - 2. R_1 के बराबर
 - 3. $\sqrt{3}R_1$
 - 4. $\frac{2}{\sqrt{3}}R_1$

Question ID : 26433075209
Status : Answered
Chosen Option : 4

Q.7 12 cm लंबाई, 8 cm चौड़ाई और 8 cm ऊंचाई वाले धातु के एक ठोस घनाभ को पिघलाकर 4 cm भुजा वाले कितने घन बनाए जा सकते हैं?

- Ans
- 1. 11
 - 2. 13
 - 3. 14
 - 4. 12

Question ID : 26433082998
Status : Answered
Chosen Option : 4

Q.8 एक ट्रक का मूल्य से 17 प्रतिशत कम किया गया है और अब इसका मूल्य 33,32,948 रुपए हैं। इसका मूल मूल्य क्या था?

- Ans
- 1. 39,85,472 रुपए
 - 2. 38,52,612 रुपए
 - 3. 40,15,600 रुपए
 - 4. 36,47,814 रुपए

Question ID : 264330116815
Status : Answered
Chosen Option : 3

Q.9 सबसे बड़ी संख्या जो 286, 1001 और 2420 को विभाजित कर सकती है, X है। $X/2$ का मान क्या होगा?

- Ans
- 1. 5
 - 2. 5.5
 - 3. 6
 - 4. 4.5

Question ID : 264330116663
Status : Answered
Chosen Option : 2

Q.10 एक दुकानदार ने एक टेबल का अंकित मूल्य Rs.2,500 रखा। यदि वह इसे 20% छूट और 10% अतिरिक्त छूट पर बेचता है, तो टेबल का विक्रय मूल्य क्या होगा?

- Ans
- 1. Rs.1,900
 - 2. Rs.2,100
 - 3. Rs.1,800
 - 4. Rs.2,000

Question ID : 26433075657
Status : Answered
Chosen Option : 3

Q.11 यश एक कार्य को 49 दिनों में कर सकता है और नमन उसी कार्य को 35 दिनों में कर सकता है। सौरव समान कार्य को 7 दिनों में कर सकता है। यदि वे बारी-बारी से एक-एक दिन इस प्रकार कार्य करते हैं कि पहले दिन यश कार्य करता है, नमन दूसरे दिन कार्य करता है, सौरव तीसरे दिन कार्य करता है और फिर से चौथे दिन यश कार्य करता है और यह क्रम इस प्रकार कार्य के अंत तक जारी रहता है, तो समान कार्य को पूरा करने में लगने वाला कुल समय ज्ञात करें।

- Ans
- 1. 114/7 दिन
 - 2. 118/7 दिन
 - 3. 117/7 दिन
 - 4. 116/7 दिन

Question ID : 264330116895
Status : Answered
Chosen Option : 3

Q.12 एक ट्रक और चार कारों का औसत वजन 48 kg है, यदि ट्रक के वजन को अलग कर दिया जाए तो इसमें 1 kg की कमी हो जाती है। ट्रक का वजन क्या है?

- Ans
- 1. 50 kg
 - 2. 53 kg
 - 3. 51 kg
 - 4. 52 kg

Question ID : 26433080102
Status : Answered
Chosen Option : 1

Q.13 अरुण और आदित्य एक कार्य को अलग-अलग क्रमशः 8 दिन और 12 दिन में पूरा कर सकते हैं। 2 दिन अकेले कार्य करने के बाद, आदित्य कार्य छोड़ देता है, शेष कार्य को अरुण कितने दिनों में पूरा कर लेगा?

- Ans
- 1. 6 दिनों में
 - 2. 7 दिनों में
 - 3. $6\frac{2}{3}$ दिनों में
 - 4. $7\frac{1}{3}$ दिनों में

Question ID : 26433080343
Status : Answered
Chosen Option : 3

Q.14 यदि A की आय B की आय से 40 प्रतिशत अधिक है, तो B, A से कितने प्रतिशत कम अर्जित करता है?

Ans

✗ 1. $21\frac{3}{7}$ प्रतिशत

✗ 2. $18\frac{4}{7}$ प्रतिशत

✗ 3. $25\frac{3}{7}$ प्रतिशत

✓ 4. $28\frac{4}{7}$ प्रतिशत

Question ID : 26433079848

Status : Answered

Chosen Option : 4

Q.15 तीन साल पहले एक कस्बे की जनसंख्या 2,50,000 थी। यदि पिछले 3 वर्षों में इसमें 3%, 4% और 6% की वृद्धि हुई है, तो कस्बे की वर्तमान जनसंख्या ज्ञात कीजिए।

Ans

✓ 1. 2,83,868

✗ 2. 1,83,868

✗ 3. 4,83,868

✗ 4. 3,83,868

Question ID : 26433092034

Status : Answered

Chosen Option : 1

Q.16 4 km की दौड़ में, A, B और C में से प्रत्येक समान चाल से दौड़ते हुए क्रमशः प्रथम, द्वितीय और तृतीय स्थान प्राप्त करते हैं। यदि A, B को 1 km से पछाड़ देता है और B, C को 1 km से पछाड़ देता है, तो उस दौड़ में A, C को कितने मीटर से पछाड़ता है?

Ans

✓ 1. 1750 m

✗ 2. 1775 m

✗ 3. 1700 m

✗ 4. 1725 m

Question ID : 26433063958

Status : Not Answered

Chosen Option : --

Q.17 एक दुकानदार अपने पुराने स्टॉक को क्रय मूल्य से 25 प्रतिशत हानि पर बेचता है, लेकिन 30 प्रतिशत कम वजन का उपयोग करता है। उसका प्रतिशत लाभ या हानि क्या है (दशमलव के दो स्थानों तक सही उत्तर दीजिए)?

Ans

✗ 1. 9.14 प्रतिशत का लाभ

✗ 2. 7.14 प्रतिशत की हानि

✗ 3. 9.14 प्रतिशत की हानि

✓ 4. 7.14 प्रतिशत का लाभ

Question ID : 26433074222

Status : Answered

Chosen Option : 4

Q.18 यदि किसी वस्तु की खपत के प्रतिशत में वृद्धि 25% है, ताकि कुल बजट में परिवर्तन न हो, तो वस्तु की कीमत में _____ गिरावट आती है।

- Ans
- 1. 25%
 - 2. 35%
 - 3. 20%
 - 4. 30%

Question ID : 26433079927
Status : Answered
Chosen Option : 3

Q.19 एक जैकेट का अंकित मूल्य ₹3,500 है। एक दुकानदार उस पर 5% की छूट देने के बाद नए मूल्य पर 15% की छूट देता है और पुनः नए मूल्य पर 20% की छूट देता है। किसी व्यक्ति को इसके लिए कुल कितना भुगतान करना होगा?

- Ans
- 1. ₹2,260
 - 2. ₹2,265
 - 3. ₹2,261
 - 4. ₹2,263

Question ID : 26433080172
Status : Answered
Chosen Option : 3

Q.20 4 और 900 के बीच मध्यानुपाती ज्ञात कीजिए।

- Ans
- 1. 60
 - 2. 90
 - 3. 30
 - 4. 120

Question ID : 26433076185
Status : Answered
Chosen Option : 2

Section : Part-D-English

Q.1 Select the most appropriate synonym of the given word.
Benefit

- Ans
- 1. Rapture
 - 2. Genesis
 - 3. Advantage
 - 4. Injury

Question ID : 26433084679
Status : Not Answered
Chosen Option : --

Q.2 Select the most appropriate ANTONYM of the given word.

Exhaust

- Ans 1. Restore
 2. Empty
 3. Collect
 4. Burn

Question ID : 26433084894
Status : Not Answered
Chosen Option : --

Q.3 Select the most appropriate option that can substitute the underlined segment in the given sentence. If there is no need to substitute it, select 'No substitution'.

The students ran quick to get on the train.

- Ans 1. The student run quickly
 2. The students ran quickly
 3. No substitution
 4. The students runs quickly

Question ID : 26433088742
Status : Not Answered
Chosen Option : --

Q.4 Select the most appropriate meaning of the given idiom.

Bite off more than you can chew

- Ans 1. Destructive power
 2. Overcome gluttony
 3. Too courageous
 4. Take on a task that you cannot finish

Question ID : 26433073995
Status : Not Answered
Chosen Option : --

Q.5 Select the most appropriate synonym to substitute the underlined word in the given sentence.

Sivasubramanian Iyer was not perturbed, nor did he get angry with his wife, but instead, served me with his own hands and sat down beside me to eat his meal.

- Ans 1. composed
 2. apprehended
 3. disturbed
 4. appreciated

Question ID : 26433073864
Status : Not Answered
Chosen Option : --

Q.6 Select the most appropriate meaning of the given idiom.

Lose your marbles

- Ans 1. To lose the wealth
 2. To become insane
 3. To waste the resources
 4. To be hopeful

Question ID : 26433073483
Status : Not Answered
Chosen Option : --

Q.7 Select the most appropriate option that can substitute the underlined segment in the given sentence.

As a student of medicine, you have to learn the terminologies by heart.

- Ans 1. significant conditions
 2. general agreements
 3. virtuous professions
 4. special expressions

Question ID : 26433099874
Status : Not Answered
Chosen Option : --

Q.8 Select the INCORRECTLY spelt word.

- Ans 1. Geometry
 2. Contradict
 3. Auspicious
 4. Arrogant

Question ID : 26433073728
Status : Not Answered
Chosen Option : --

Q.9 Select the most appropriate synonym to substitute the underlined word in the given sentence.

This bodyguard was like a firewall for the leader.

- Ans 1. vanguard
 2. forerunner
 3. perfectionist
 4. bulwark

Question ID : 26433074016
Status : Not Answered
Chosen Option : --

Q.10 Select the most appropriate option that can substitute the underlined segment in the given sentence. If there is no need to substitute it, select 'No substitution'.

The weathermen felt that it was more hotter today.

- Ans
- 1. hotting
 - 2. No substitution
 - 3. most hotter
 - 4. hotter

Question ID : 26433089113
Status : Not Answered
Chosen Option : --

Q.11 Select the most appropriate ANTONYM of the given word.

Dominate

- Ans
- 1. Rules
 - 2. Command
 - 3. Surrender
 - 4. Orders

Question ID : 26433084750
Status : Not Answered
Chosen Option : --

Q.12 Select the most appropriate ANTONYM of the underlined word to fill in the blank.

Children were amused by the puppet show, but they were _____ with the Chairman's speech.

- Ans
- 1. charmed
 - 2. encouraged
 - 3. gratified
 - 4. bored

Question ID : 26433089067
Status : Not Answered
Chosen Option : --

Q.13 Select the most appropriate option to fill in the blank.

Everything Priyanka did in her academic _____ ended in vain.

- Ans
- 1. attends
 - 2. attestations
 - 3. adamants
 - 4. attempts

Question ID : 26433089356
Status : Not Answered
Chosen Option : --

Q.14 Parts of the following sentence have been given as options. One of them may contain an error. Select the part that contains the error from the given options. If you don't find any error, mark 'No error' as your answer.

The software detected an anomaly cause by the virus.

- Ans 1. cause by the virus
 2. No error
 3. an anomaly
 4. The software detected

Question ID : 26433090485
Status : Not Answered
Chosen Option : --

Q.15 Parts of the given sentence have been given as options. One of them contains a spelling error. Select the option that rectifies the error.

Macaroni penguins have a distenctive yellow feather crest on their forehead.

- Ans 1. penguens
 2. distinctive
 3. forehead
 4. chrest

Question ID : 26433059584
Status : Not Answered
Chosen Option : --

Comprehension:

In the following passage some words have been deleted. Fill in the blanks with the help of the alternatives given. Select the most appropriate option for each number.

The Sentinelese, the world's most remote tribe have (1)_____ the interest of millions of people. They (2)_____ on North Sentinel, a little island covered with forests that is about the size of Manhattan. They continue to reject any interaction with outsiders and assault anyone who (3)_____. The Sentinelese hunt, collect, and fish in the forest (4)_____ the coast. They build boats, unlike the nearby Jarawa tribe, who only makes (5)_____ thin outrigger canoes that are 'too narrow to fit two feet in'. Since they are guided and propelled using a pole similar to a punt, these can only be used in shallow waters.

SubQuestion No : 16

Q.16 Select the most appropriate answer for blank 1.

- Ans 1. affected
 2. enrolled
 3. provoked
 4. sparked

Question ID : 26433089706
Status : Not Answered
Chosen Option : --

Comprehension:

In the following passage some words have been deleted. Fill in the blanks with the help of the alternatives given. Select the most appropriate option for each number.

The Sentinelese, the world's most remote tribe have (1)_____ the interest of millions of people. They (2)_____ on North Sentinel, a little island covered with forests that is about the size of Manhattan. They continue to reject any interaction with outsiders and assault anyone who (3)_____. The Sentinelese hunt, collect, and fish in the forest (4)_____ the coast. They build boats, unlike the nearby Jarawa tribe, who only makes (5)_____ thin outrigger canoes that are 'too narrow to fit two feet in'. Since they are guided and propelled using a pole similar to a punt, these can only be used in shallow waters.

SubQuestion No : 17

Q.17 Select the most appropriate answer for blank 2.

- Ans
- 1. carry
 - 2. belong
 - 3. visit
 - 4. reside

Question ID : 26433089707

Status : Not Answered

Chosen Option : --

Comprehension:

In the following passage some words have been deleted. Fill in the blanks with the help of the alternatives given. Select the most appropriate option for each number.

The Sentinelese, the world's most remote tribe have (1)_____ the interest of millions of people. They (2)_____ on North Sentinel, a little island covered with forests that is about the size of Manhattan. They continue to reject any interaction with outsiders and assault anyone who (3)_____. The Sentinelese hunt, collect, and fish in the forest (4)_____ the coast. They build boats, unlike the nearby Jarawa tribe, who only makes (5)_____ thin outrigger canoes that are 'too narrow to fit two feet in'. Since they are guided and propelled using a pole similar to a punt, these can only be used in shallow waters.

SubQuestion No : 18

Q.18 Select the most appropriate answer for blank 3.

- Ans
- 1. approaches
 - 2. corresponds
 - 3. addresses
 - 4. commences

Question ID : 26433089708

Status : Not Answered

Chosen Option : --

Comprehension:

In the following passage some words have been deleted. Fill in the blanks with the help of the alternatives given. Select the most appropriate option for each number.

The Sentinelese, the world's most remote tribe have (1)_____ the interest of millions of people. They (2)_____ on North Sentinel, a little island covered with forests that is about the size of Manhattan. They continue to reject any interaction with outsiders and assault anyone who (3)_____. The Sentinelese hunt, collect, and fish in the forest (4)_____ the coast. They build boats, unlike the nearby Jarawa tribe, who only makes (5)_____ thin outrigger canoes that are 'too narrow to fit two feet in'. Since they are guided and propelled using a pole similar to a punt, these can only be used in shallow waters.

SubQuestion No : 19

Q.19 Select the most appropriate answer for blank 4.

- Ans 1. along
 2. over
 3. beside
 4. across

Question ID : 26433089709

Status : Not Answered

Chosen Option : --

Comprehension:

In the following passage some words have been deleted. Fill in the blanks with the help of the alternatives given. Select the most appropriate option for each number.

The Sentinelese, the world's most remote tribe have (1)_____ the interest of millions of people. They (2)_____ on North Sentinel, a little island covered with forests that is about the size of Manhattan. They continue to reject any interaction with outsiders and assault anyone who (3)_____. The Sentinelese hunt, collect, and fish in the forest (4)_____ the coast. They build boats, unlike the nearby Jarawa tribe, who only makes (5)_____ thin outrigger canoes that are 'too narrow to fit two feet in'. Since they are guided and propelled using a pole similar to a punt, these can only be used in shallow waters.

SubQuestion No : 20

Q.20 Select the most appropriate answer for blank 5.

- Ans 1. exclusively
 2. knowingly
 3. abundantly
 4. extremely

Question ID : 26433089710

Status : Not Answered

Chosen Option : --

Section : Part-D-Hindi

Q.1 निम्नलिखित में से कौन सा सार्वनामिक विशेषण शब्द नहीं है?

- Ans 1. ऐसा
 2. मैं
 3. तुम्हारा
 4. जैसा

Question ID : 26433085054

Status : Not Answered

Chosen Option : --

Q.2 निम्नलिखित वाक्य में रेखांकित अंश के स्थान पर सबसे उपयुक्त विकल्प निम्न में से कौन-सा होगा?
शत्रु मैदान से दौड़ खड़ा हुआ

- Ans 1. उठ
 2. भाग
 3. निकल
 4. रवाना

Question ID : 26433072585
Status : Answered
Chosen Option : 2

Q.3 निम्नलिखित विकल्पों में से कौन सा एक वाक्य संयोजक क्रिया-विशेषण से सम्बन्ध रखता है?

- Ans 1. मैं जाग रहा हूँ।
 2. वे लेते हुए थे।
 3. वह सो रहा था।
 4. जहाँ आप पढ़ेंगे, वहाँ मैं भी पढ़ूँगा।

Question ID : 26433062952
Status : Answered
Chosen Option : 4

Q.4 'महादेवी वर्मा महान कवियत्री थीं।' इस वाक्य में अशुद्ध वर्तनी वाला शब्द है -

- Ans 1. महादेवी
 2. कवियत्री
 3. वर्मा
 4. महान

Question ID : 26433080902
Status : Answered
Chosen Option : 2

Q.5 'जिसका जन्म बाद में हुआ हो' वाक्यांश के लिए उपयुक्त शब्द क्या होगा?

- Ans 1. अनुज
 2. अग्रज
 3. ज्येष्ठ
 4. अग्रजा

Question ID : 26433067068
Status : Answered
Chosen Option : 1

Q.6 वे जन्मपर्यंत ब्रह्मचारी रहे।
उपर्युक्त वाक्य में रेखांकित पद के स्थान पर निम्न में से कौन सा शब्द आ सकता है?

- Ans
- 1. जीवन आरंभ होने के बाद
 - 2. जीवन के बाद
 - 3. आजन्म
 - 4. पुनर्जन्म

Question ID : 26433063057
Status : Answered
Chosen Option : 3

Q.7 भगवान विष्णु ने एक अवतार कूर्म के रूप में भी लिया था।
उपरोक्त वाक्य में प्रयुक्त 'कूर्म' शब्द का पर्याय क्या होगा?

- Ans
- 1. श्वान
 - 2. कछुआ
 - 3. सिंह
 - 4. सूकर

Question ID : 26433080855
Status : Answered
Chosen Option : 2

Q.8 निम्नलिखित वाक्य का शुद्ध रूप क्या होगा?
'वे सब काल चक्र के पहिए के नीचे पिश गए।'

- Ans
- 1. वे सब कालचक्र में पिस गए।
 - 2. वे कालचक्र के नीचे पीसता गया।
 - 3. वे कालचक्र के पहिए के नीचे पीस गए।
 - 4. वे सब कालचक्र के पहिए के नीचे पेसे गए।

Question ID : 26433063075
Status : Answered
Chosen Option : 1

Q.9 'नाव' के पर्यायवाची शब्द से निम्न वाक्य पूर्ण कीजिए।
नाविक _____ से नदी पार कराता है।

- Ans
- 1. रैन
 - 2. कश्ती
 - 3. रेत
 - 4. तरु

Question ID : 26433063086
Status : Answered
Chosen Option : 2

Q.10 निम्नलिखित वाक्यांश के लिय उपयुक्त सार्थक शब्द चुनिए।
भाप के कारण होने वाला अंधेरा

- Ans
- 1. बूंद
 - 2. अंधियारा
 - 3. धुंध
 - 4. रात

Question ID : 26433073309
Status : Answered
Chosen Option : 3

Q.11 निम्नलिखित वाक्य में रेखांकित शब्द के सही विलोम से दिए गए वाक्य के रिक्त स्थान की पूर्ति कीजिए।
उसका रवैया दुलमुलु नहीं है, वह अपनी बात पर सदैव _____ रहता है।

- Ans
- 1. अटल
 - 2. अचल
 - 3. अवश
 - 4. निश्चित

Question ID : 26433085003
Status : Answered
Chosen Option : 1

Q.12 प्रत्यक्ष को प्रमाण की आवश्यकता नहीं होती।
उपरोक्त वाक्य में रेखांकित शब्द के विलोम शब्द का चयन कीजिए।

- Ans
- 1. दीर्घ
 - 2. परोक्ष
 - 3. समक्ष
 - 4. ओक्षा

Question ID : 26433079641
Status : Answered
Chosen Option : 2

Q.13 'घोड़े बेंचकर सोना' मुहावरे का सही अर्थ है -

- Ans
- 1. नींद न आना
 - 2. गहरी नींद सोना
 - 3. जिम्मेदारी न लेना
 - 4. खुश होना

Question ID : 26433065921
Status : Answered
Chosen Option : 2

Q.14 नीचे दिए शब्द के लिए उचित वाक्यांश दिए गए विकल्पों में से चुनिए-
अन्यमनस्क

- Ans 1. जिसका मन किसी दूसरी ओर लगा हो
 2. किसी और स्थान पर
 3. जो पहले न हुआ हो
 4. जो नया न हो

Question ID : 26433062388
Status : Answered
Chosen Option : 1

Q.15 'हुक्का पानी बंद करना' मुहावरे का सही अर्थ है -

- Ans 1. नशा छोड़ना
 2. खाना देना बंद करना
 3. जाति से बहिष्कृत करना
 4. नशा करना

Question ID : 26433065931
Status : Answered
Chosen Option : 2

Comprehension:

प्रश्न 1 से 5 तक के उत्तर निम्नांकित गद्यावतरण के आधार पर दीजिए।
जिन दिनों जीवन अपेक्षाकृत गतिहीन था, उन दिनों कथनी और करनी का विरोध उतना नहीं था, लेकिन ज्यों-ज्यों राजनीतिक और आर्थिक परिवर्तनों की रफ्तार तेज होती गयी, इस विरोध की उग्रता भी अधिकाधिक (1) _____ होती गयी। आज जब हम (2) _____ के दरवाजे पर खड़े हैं, तब हमें अपने इस आंतरिक विरोध का शमन करना ही पड़ेगा अन्यथा सर्वनाश अवश्यभावी है। मानव-मन की अतल गहराई में हम यदि झाँक कर देखें तो वहाँ आज भी (3) _____ की दमित वासनाएँ कंचुली मारे बैठी हैं। वाणी उसकी कितनी ही सांस्कारिक क्यों न हो गयी हो, पर (4) _____ में मैल के पर्त और भी मोटे होते गए हैं। हमारे आचरण की तुलना में हमारे उद्गार इतने ऊँचे हैं कि उन्हें सुनकर आश्चर्य होता है। बात तो हम 'वसुधैव कुटुम्बकम्' की करते हैं, परंतु काम हमारे कुछ और होते हैं। सिद्धांत तो सहिष्णुता का बघारते हैं, लेकिन व्यवहार में हम चाहते हैं कि दूसरे भी वही सोचे, जो हम सोचते हैं - हमारा नेतृत्व और श्रेष्ठता बेझिझक स्वीकार करे। यह खतरे की स्थिति में है और यह खतरा बाहर नहीं, हमारे भीतर बैठा (5) _____ की ताक में है।

SubQuestion No : 16

Q.16 निम्न विकल्पों में से 'प्रति' उपसर्ग वाले सर्वाधिक उपयुक्त शब्द का चयन कर रिक्त स्थान (1) की पूर्ति कीजिए।

- Ans 1. प्रतिकूल
 2. प्रतिकार
 3. प्रत्येक
 4. प्रत्यक्ष

Question ID : 26433069956
Status : Answered
Chosen Option : 1

Comprehension:

प्रश्न 1 से 5 तक के उत्तर निम्नांकित गद्यावतरण के आधार पर दीजिए।
जिन दिनों जीवन अपेक्षाकृत गतिहीन था, उन दिनों कथनी और करनी का विरोध उतना नहीं था, लेकिन ज्यों-ज्यों राजनीतिक और आर्थिक परिवर्तनों की रफ्तार तेज होती गयी, इस विरोध की उग्रता भी अधिकाधिक (1) _____ होती गयी। आज जब हम (2) _____ के दरवाजे पर खड़े हैं, तब हमें अपने इस आंतरिक विरोध का शमन करना ही पड़ेगा अन्यथा सर्वनाश अवश्यंभावी है। मानव - मन की अतल गहराई में हम यदि झाँक कर देखें तो वहाँ आज भी (3) _____ की दमित वासनाएँ केंचुली मारे बैठी हैं। वाणी उसकी कितनी ही सांस्कारिक क्यों न हो गयी हो, पर (4) _____ में मैल के पर्त और भी मोटे होते गए हैं। हमारे आचरण की तुलना में हमारे उद्गार इतने ऊँचे हैं कि उन्हें सुनकर आश्चर्य होता है। बात तो हम 'वसुधैव कुटुम्बकम्' की करते हैं, परंतु काम हमारे कुछ और होते हैं। सिद्धांत तो सहिष्णुता का बघारते हैं, लेकिन व्यवहार में हम चाहते हैं कि दूसरे भी वही सोचे, जो हम सोचते हैं - हमारा नेतृत्व और श्रेष्ठता बेझिझक स्वीकार करे। यह खतरे की स्थिति में है और यह खतरा बाहर नहीं, हमारे भीतर बैठा (5) _____ की ताक में है।

SubQuestion No : 17

Q.17 निम्न विकल्पों में से उपयुक्त शब्द का चयन कर रिक्त स्थान (2) की पूर्ति कीजिए।

- Ans 1. कलियुग
 2. अंधायुग
 3. अणुयुग
 4. मध्ययुग

Question ID : 26433069957

Status : Answered

Chosen Option : 1

Comprehension:

प्रश्न 1 से 5 तक के उत्तर निम्नांकित गद्यावतरण के आधार पर दीजिए।
जिन दिनों जीवन अपेक्षाकृत गतिहीन था, उन दिनों कथनी और करनी का विरोध उतना नहीं था, लेकिन ज्यों-ज्यों राजनीतिक और आर्थिक परिवर्तनों की रफ्तार तेज होती गयी, इस विरोध की उग्रता भी अधिकाधिक (1) _____ होती गयी। आज जब हम (2) _____ के दरवाजे पर खड़े हैं, तब हमें अपने इस आंतरिक विरोध का शमन करना ही पड़ेगा अन्यथा सर्वनाश अवश्यंभावी है। मानव - मन की अतल गहराई में हम यदि झाँक कर देखें तो वहाँ आज भी (3) _____ की दमित वासनाएँ केंचुली मारे बैठी हैं। वाणी उसकी कितनी ही सांस्कारिक क्यों न हो गयी हो, पर (4) _____ में मैल के पर्त और भी मोटे होते गए हैं। हमारे आचरण की तुलना में हमारे उद्गार इतने ऊँचे हैं कि उन्हें सुनकर आश्चर्य होता है। बात तो हम 'वसुधैव कुटुम्बकम्' की करते हैं, परंतु काम हमारे कुछ और होते हैं। सिद्धांत तो सहिष्णुता का बघारते हैं, लेकिन व्यवहार में हम चाहते हैं कि दूसरे भी वही सोचे, जो हम सोचते हैं - हमारा नेतृत्व और श्रेष्ठता बेझिझक स्वीकार करे। यह खतरे की स्थिति में है और यह खतरा बाहर नहीं, हमारे भीतर बैठा (5) _____ की ताक में है।

SubQuestion No : 18

Q.18 'गुफाओं में निवास करनेवाले प्रागैतिहासिक मानव' वाक्यांश के लिए प्रयुक्त होने वाले एक शब्द से रिक्त स्थान (3) की पूर्ति कीजिए।

- Ans 1. गूढमानव
 2. गुहामानव
 3. गैरिकमानव
 4. महामानव

Question ID : 26433069958

Status : Answered

Chosen Option : 1

Comprehension:

प्रश्न 1 से 5 तक के उत्तर निम्नांकित गद्यावतरण के आधार पर दीजिए।
जिन दिनों जीवन अपेक्षाकृत गतिहीन था, उन दिनों कथनी और करनी का विरोध उतना नहीं था, लेकिन ज्यों – ज्यों राजनीतिक और आर्थिक परिवर्तनों की रफ्तार तेज होती गयी, इस विरोध की उग्रता भी अधिकाधिक (1) _____ होती गयी। आज जब हम (2) _____ के दरवाजे पर खड़े हैं, तब हमें अपने इस आंतरिक विरोध का शमन करना ही पड़ेगा अन्यथा सर्वनाश अवश्यभावी है। मानव - मन की अतल गहराई में हम यदि झाँक कर देखें तो वहाँ आज भी (3) _____ की दमित वासनाएँ केंचुली मारे बैठी हैं। वाणी उसकी कितनी ही सांस्कारिक क्यों न हो गयी हो, पर (4) _____ में मैल के पर्त और भी मोटे होते गए हैं। हमारे आचरण की तुलना में हमारे उद्गार इतने ऊँचे हैं कि उन्हें सुनकर आश्चर्य होता है। बात तो हम 'वसुधैव कुटुम्बकम्' की करते हैं, परंतु काम हमारे कुछ और होते हैं। सिद्धांत तो सहिष्णुता का बघारते हैं, लेकिन व्यवहार में हम चाहते हैं कि दूसरे भी वही सोचे, जो हम सोचते हैं – हमारा नेतृत्व और श्रेष्ठता बेझिझक स्वीकार करे। यह खतरे की स्थिति में है और यह खतरा बाहर नहीं, हमारे भीतर बैठा (5) _____ की ताक में है।

SubQuestion No : 19

Q.19 निम्नलिखित विकल्पों में से उपयुक्त शब्द चुनकर रिक्त स्थान (4) की पूर्ति कीजिए।

- Ans
- 1. मानवजगत
 - 2. बाह्यजगत
 - 3. अंतर्जगत
 - 4. पशुजगत

Question ID : 26433069959

Status : Answered

Chosen Option : 1

Comprehension:

प्रश्न 1 से 5 तक के उत्तर निम्नांकित गद्यावतरण के आधार पर दीजिए।
जिन दिनों जीवन अपेक्षाकृत गतिहीन था, उन दिनों कथनी और करनी का विरोध उतना नहीं था, लेकिन ज्यों – ज्यों राजनीतिक और आर्थिक परिवर्तनों की रफ्तार तेज होती गयी, इस विरोध की उग्रता भी अधिकाधिक (1) _____ होती गयी। आज जब हम (2) _____ के दरवाजे पर खड़े हैं, तब हमें अपने इस आंतरिक विरोध का शमन करना ही पड़ेगा अन्यथा सर्वनाश अवश्यभावी है। मानव - मन की अतल गहराई में हम यदि झाँक कर देखें तो वहाँ आज भी (3) _____ की दमित वासनाएँ केंचुली मारे बैठी हैं। वाणी उसकी कितनी ही सांस्कारिक क्यों न हो गयी हो, पर (4) _____ में मैल के पर्त और भी मोटे होते गए हैं। हमारे आचरण की तुलना में हमारे उद्गार इतने ऊँचे हैं कि उन्हें सुनकर आश्चर्य होता है। बात तो हम 'वसुधैव कुटुम्बकम्' की करते हैं, परंतु काम हमारे कुछ और होते हैं। सिद्धांत तो सहिष्णुता का बघारते हैं, लेकिन व्यवहार में हम चाहते हैं कि दूसरे भी वही सोचे, जो हम सोचते हैं – हमारा नेतृत्व और श्रेष्ठता बेझिझक स्वीकार करे। यह खतरे की स्थिति में है और यह खतरा बाहर नहीं, हमारे भीतर बैठा (5) _____ की ताक में है।

SubQuestion No : 20

Q.20 निम्न विकल्पों में से 'मौका' शब्द के पर्यायवाची द्वारा रिक्त स्थान (5) की पूर्ति कीजिए।

- Ans
- 1. अवसर
 - 2. सहायता
 - 3. सारांश
 - 4. विलंब

Question ID : 26433069960

Status : Answered

Chosen Option : 1

Constable GD in CAPFs SSF Rifleman GD in Assam Rifles and Sepoy in NCB Examination 2022

Roll Number	KD Job Updates
Candidate Name	KD Job Updates
Venue Name	Jaipur Engineering College
Exam Date	16/01/2023
Exam Time	9:00 AM - 10:00 AM
Subject	Constable GD Examination 2022

Section : Part-A-General Intelligence and Reasoning

Q.1 निम्नलिखित में से कौन-सा पद दी गई श्रृंखला में प्रश्न-चिह्न (?) के स्थान पर आएगा?
BGR, CIV, ELZ, HPD, LUH, ?

- Ans
- 1. QBK
 - 2. QBL
 - 3. QAL
 - 4. QAK

Question ID : 26433069453

Status : Answered

Chosen Option : 3

Q.2 सात व्यक्ति A, B, C, D, E, F और G एक सीधी पंक्ति में उत्तर की ओर मुख करके बैठे हैं। A बाईं ओर से दूसरे स्थान पर बैठा है। A और C के बीच केवल दो व्यक्ति बैठे हैं। D और F के बीच केवल तीन व्यक्ति बैठे हैं, और D, A के ठीक बगल में है। B, D के ठीक बगल में है, और E, C के ठीक बगल में नहीं है। अंतिम बाएं सिरे पर कौन बैठा है?

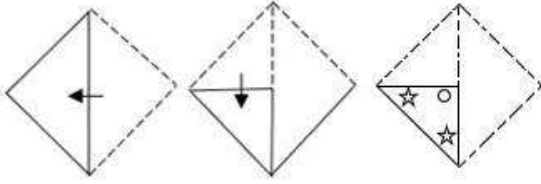
- Ans
- 1. E
 - 2. F
 - 3. D
 - 4. G

Question ID : 26433056931


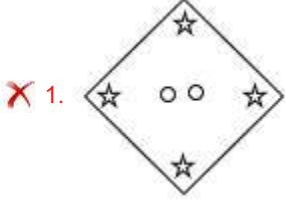
Status : Answered

Chosen Option : 1

Q.3 एक कागज को नीचे दिखाए अनुसार मोड़ा और काटा गया है। कागज की तह खुलने पर यह कैसा दिखाई देगा?



Ans



Question ID : 26433090954

Status : Answered

Chosen Option : 4

Q.4 निम्नलिखित में से कौन सा विकल्प नीचे दिए गए शब्दों के उस क्रम को निरूपित करता है जिस क्रम में वे अंग्रेजी शब्दकोश में आते हैं?

1. Glob
2. Globule
3. Global
4. Globe
5. Gloom

Ans ✗ 1. 3, 4, 2, 1, 5

✗ 2. 1, 2, 4, 3, 5

✗ 3. 1, 3, 4, 5, 2

✓ 4. 1, 3, 4, 2, 5

Question ID : 26433086968

Status : Answered

Chosen Option : 4

Q.5 नीचे दिए गए समीकरण को गणितीय रूप से सही बनाने के लिए किन दो चिह्नों को परस्पर बदलना चाहिए?

$$48 + 36 - 81 \times 9 \div 2 = 66$$

- Ans
- 1. + और -
 - 2. \times और +
 - 3. \div और -
 - 4. \div और \times

Question ID : 264330117536

Status : Answered

Chosen Option : 4

Q.6 विकल्पों में दिए गए गणितीय चिह्नों का कौन सा संयोजन निम्न समीकरण में * चिह्नों के स्थान पर क्रमिक रूप से आकर समीकरण को संतुलित करेगा?

$$11 * 10 * 10 * 240 * 2$$

- Ans
- 1. =, +, \div , \times
 - 2. \times , +, =, \div
 - 3. \div , \times , =, +
 - 4. \times , \div , =, +

Question ID : 26433094993

Status : Answered

Chosen Option : 2

Q.7 उस विकल्प का चयन करें जो तिसरे पद से उसी प्रकार संबंधित है, जिस प्रकार दूसरा पद पहले पद से और छठा पद पांचवे पद से संबंधित है।

$$13 : 225 :: 16 : ? :: 17 : 361$$

- Ans
- 1. 345
 - 2. 328
 - 3. 324
 - 4. 376

Question ID : 26433069094

Status : Answered

Chosen Option : 3

Q.8 निम्नलिखित में से कौन सी संख्या दी गई श्रृंखला में प्रश्न चिह्न (?) के स्थान पर आएगी?
10, 11, 15, 42, 58, 183, ?

- Ans
- 1. 219
 - 2. 217
 - 3. 218
 - 4. 220

Question ID : 26433085641

Status : Answered

Chosen Option : 1

Q.9 दी गई आकृति के सही दर्पण प्रतिबिम्ब का चयन करें जब दर्पण को MN पर रखा जाए जैसा कि नीचे दर्शाया गया है।



Ans

- ✗ 1. tR487eG2b62
- ✗ 2. T1487eG2b62
- ✗ 3. tR487E2b62
- ✓ 4. TR487eG2b62

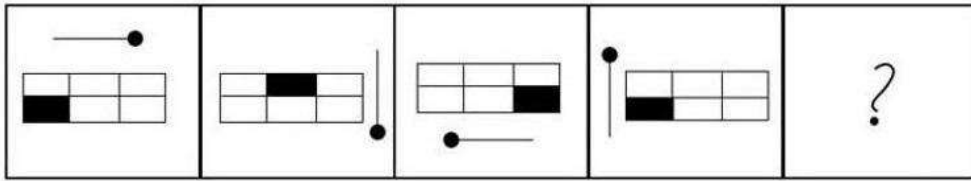
Question ID : 26433085545

Status : Answered

Chosen Option : 4

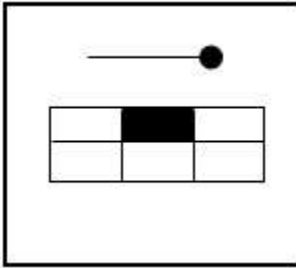
KD Job Updates

Q.10 निम्नलिखित आकृति शृंखला में प्रश्न-चिह्न (?) के स्थान पर नीचे दिए गए विकल्पों में से कौन-सी आकृति आएगी?

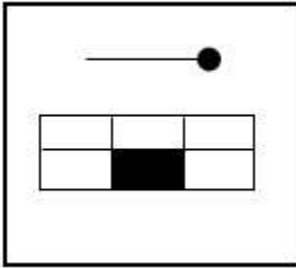


Ans

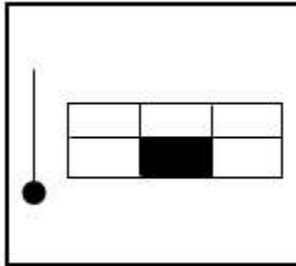
✓ 1.



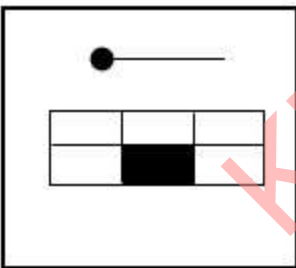
✗ 2.



✗ 3.



✗ 4.



Question ID : 26433081692

Status : Answered

Chosen Option : 1

Q.11 एक निश्चित कूट भाषा में 'BARK' शब्द को आंकिक तरीके से 5132 के रूप में कूटबद्ध किया जाता है। 'BEND' शब्द को आंकिक तरीके से 5749 के रूप में कूटबद्ध किया जाता है। उसी कूट भाषा में 'BEARD' शब्द को आंकिक तरीके से किस रूप में कूटबद्ध किया जाएगा?

- Ans
- 1. 51739
 - 2. 57123
 - 3. 57132
 - 4. 57139

Question ID : 26433090107

Status : Answered

Chosen Option : 4

Q.12 निम्नलिखित में से कौन-सा अक्षर-समूह दी गई श्रृंखला में प्रश्न-चिह्न (?) के स्थान पर आएगा?
DHVY, GKSV, ?, MQMP, PTJM

- Ans
- 1. KNPR
 - 2. JPMR
 - 3. JNPS
 - 4. JNQS

Question ID : 26433076440

Status : Answered

Chosen Option : 3

Q.13 तीन कथनों के बाद तीन निष्कर्ष I, II और III दिए गए हैं। कथनों को सत्य मानते हुए, भले ही वे सामान्य रूप से ज्ञात तथ्यों से भिन्न प्रतीत होते हों, निर्धारित करें कि कौन-सा/से निष्कर्ष, कथनों का तार्किक रूप से अनुसरण करता है/करते हैं।

कथन:

सभी तने पत्ते हैं।

सभी फल पत्ते हैं।

सभी पत्ते ट्रंक हैं।

निष्कर्ष:

I. सभी फल ट्रंक हैं।

II. सभी ट्रंक तने हैं।

III. कुछ ट्रंक फल हैं।

- Ans
- 1. केवल निष्कर्ष II और III अनुसरण करते हैं
 - 2. केवल निष्कर्ष I और III अनुसरण करते हैं
 - 3. केवल निष्कर्ष I और II अनुसरण करते हैं
 - 4. सभी निष्कर्ष अनुसरण करते हैं

Question ID : 26433082311

Status : Answered

Chosen Option : 2

Q.14 छः विद्यार्थी एक वृत्ताकार मेज के परितः मेज के केंद्र की ओर मुख करके बैठे हैं। F, A के ठीक बगल में है। D, E के दाईं ओर दूसरे स्थान पर बैठा है। B, E के ठीक बगल में है, और C के दाईं ओर दूसरे स्थान पर बैठा है। F, D के दाईं ओर दूसरे स्थान पर बैठा है। A, E के ठीक बगल में नहीं है। E के बाईं ओर ठीक बगल में कौन बैठा है?

- Ans
- 1. A
 - 2. F
 - 3. C
 - 4. B

Question ID : 26433092767

Status : Answered

Chosen Option : 3

Q.15 दिए गए विकल्पों में से वह संख्या चुनिए, जो निम्नलिखित श्रृंखला में प्रश्न-चिह्न (?) को प्रतिस्थापित कर सके।
83, 299, 424, 488, ?

- Ans
- 1. 625
 - 2. 589
 - 3. 515
 - 4. 415

Question ID : 26433074536

Status : Answered

Chosen Option : 3

Q.16 उस विकल्प का चयन कीजिए, जो पाँचवें पद से उसी प्रकार संबंधित है, जिस प्रकार दूसरा पद पहले पद से और चौथा पद तीसरे पद से संबंधित है।
BIND : FFKH :: ROMP : VLJT :: SPUN : ?

- Ans
- 1. WMRR
 - 2. WMQS
 - 3. VLQR
 - 4. VLRS

Question ID : 26433058010

Status : Answered

Chosen Option : 1

Q.17 उस विकल्प का चयन करें, जो पांचवे अक्षर-समूह से उसी प्रकार संबंधित है, जिस प्रकार दूसरा अक्षर-समूह पहले अक्षर-समूह से संबंधित है, और चौथा अक्षर-समूह तीसरे अक्षर-समूह से संबंधित है।
QPON : RRRR :: IJGK : JLJO :: PKON : ?

- Ans
- 1. RQRM
 - 2. MQRR
 - 3. QMRR
 - 4. RRMQ

Question ID : 26433080463

Status : Answered

Chosen Option : 3

Q.18 निम्न विकल्पों में से उस उत्तर आकृति का चयन करें जिसमें नीचे दी गई प्रश्न आकृति निहित है (आकृति घुमाने की अनुमति नहीं है)।

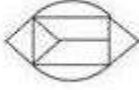


Ans

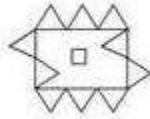
✗ 1.



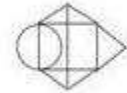
✓ 2.



✗ 3.



✗ 4.



Question ID : 26433070207

Status : Answered

Chosen Option : 2

Q.19 किसी निश्चित कूट भाषा में, 'grasshopper ant' को, 'ja do' के रूप में कूटबद्ध किया जाता है, 'seed blade' को, 'ju fo' के रूप में कूटबद्ध किया जाता है, 'blade ant' को, 'fo do' के रूप में कूटबद्ध किया जाता है और 'grasshopper seed' को, 'ja ju' के रूप में कूटबद्ध किया जाता है। 'blade' का कूट क्या है?

Ans ✓ 1. fo

✗ 2. do

✗ 3. zu

✗ 4. ja

Question ID : 26433069041

Status : Answered

Chosen Option : 1

Q.20 एक फोटो को देखते हुए अंजलि ने कहा "वह मेरे पिता का इकलौता बेटा है।" फोटो में दिख रहे व्यक्ति का अंजलि से क्या संबंध है?

Ans ✗ 1. बेटा

✓ 2. भाई

✗ 3. दादा

✗ 4. नाना

Question ID : 26433074601

Status : Answered

Chosen Option : 2

Q.1 निम्नलिखित में से कौन-सा नृत्य रूप सिक्किम से संबंधित है?

- Ans
- 1. कोलाट्टम
 - 2. मुनारी
 - 3. भांगड़ा
 - 4. ताशी सब्दो

Question ID : 26433071689
Status : Answered
Chosen Option : 4

Q.2 10 अप्रैल 2022 तक लोकसभा के लिए कितने आम चुनाव हो चुके हैं?

- Ans
- 1. 17
 - 2. 15
 - 3. 21
 - 4. 19

Question ID : 26433054550
Status : Answered
Chosen Option : 1

Q.3 प्लास्टिड्स जिनमें _____ रंजक क्लोरोफिल होता है, क्लोरोप्लास्ट कहलाते हैं।

- Ans
- 1. रंगहीन
 - 2. पीले
 - 3. भूरे
 - 4. हरे

Question ID : 264330115240
Status : Answered
Chosen Option : 4

Q.4 जलियांवाला बाग हत्याकांड 1919 में हुआ था। जलियांवाला बाग कहां स्थित है?

- Ans
- 1. हरयाणा
 - 2. पंजाब
 - 3. मध्य प्रदेश
 - 4. उत्तर प्रदेश

Question ID : 264330115704
Status : Answered
Chosen Option : 2

Q.5 निम्नलिखित में से किसे 2001 में संगीत नाटक अकादमी पुरस्कार से सम्मानित किया गया था?

- Ans
- 1. सोनल मानसिंह
 - 2. अलरमेल वल्ली
 - 3. एम आर कृष्णमूर्ति
 - 4. अनुराधा पाण्डेय

Question ID : 264330115861

Status : Answered

Chosen Option : 1

Q.6 परंपरागत आदानों का उपयोग और आधुनिक तकनीकों की अनुपस्थिति कृषि उत्पादकता को _____ की ओर ले जाती है।

- Ans
- 1. सर्वोच्च स्तर
 - 2. ईष्टतम स्तर
 - 3. निम्न स्तर
 - 4. उच्च स्तर

Question ID : 264330115433

Status : Answered

Chosen Option : 3

Q.7 विश्व शतरंज चैम्पियन विश्वनाथन आनंद किस देश के हैं?

- Ans
- 1. बांग्लादेश
 - 2. भारत
 - 3. नेपाल
 - 4. श्रीलंका

Question ID : 264330116275

Status : Answered

Chosen Option : 2

Q.8 भारत का कौन-सा पड़ोसी देश, राष्ट्रमंडल खेलों का हिस्सा नहीं है?

- Ans
- 1. पाकिस्तान
 - 2. श्रीलंका
 - 3. चीन
 - 4. बांग्लादेश

Question ID : 264330116099

Status : Answered

Chosen Option : 3

Q.9 निम्नलिखित में से कौन सा तैराकी के खेल में इस्तेमाल किए जाने वाला एक स्ट्रोक है?

- Ans 1. बटरफ्लाई
 2. डॉग
 3. शार्क
 4. लायन

Question ID : 26433089941

Status : Answered

Chosen Option : 1

Q.10 जब मेंडलीफ ने अपना काम शुरू किया, तो कितने तत्त्व ज्ञात थे?

- Ans 1. 73
 2. 53
 3. 63
 4. 93

Question ID : 26433087852

Status : Answered

Chosen Option : 4

Q.11 निम्नलिखित में से कौन-सा फसल उत्सव मुख्य रूप से पश्चिमी ओडिशा के लोगों द्वारा मनाया जाता है?

- Ans 1. गुड़ी पड़वा
 2. नुआखाई
 3. ओणम
 4. वांगला

Question ID : 26433094895

Status : Answered

Chosen Option : 2

Q.12 _____, जो कनिष्क के दरबार में रहते थे, ने बुद्ध की जीवनी, बुद्धचरित की रचना की।

- Ans 1. मथार
 2. संघरक्ष
 3. अश्वघोष
 4. नागार्जुन

Question ID : 26433089862

Status : Answered

Chosen Option : 3

Q.13 1976 में 42वें संशोधन अधिनियम ने भारतीय संविधान में कौन-सा नया भाग सम्मिलित किया?

- Ans
- 1. भाग III A
 - 2. भाग IV A
 - 3. भाग II A
 - 4. भाग I A

Question ID : 26433089949

Status : Answered

Chosen Option : 2

Q.14 किस राजनीतिक नेता ने नवंबर 2022 में उत्तर प्रदेश में गोला गोकर्णनाथ निर्वाचन क्षेत्र से उपचुनाव जीता?

- Ans
- 1. अमन गिरी
 - 2. आजम खान
 - 3. विक्रम सिंह सैनी
 - 4. पीयूष गोयल

Question ID : 264330114971

Status : Answered

Chosen Option : 1

Q.15 The interest rate at which the Reserve Bank absorbs liquidity from banks against the collateral of eligible government securities under the LAF is called the _____.

- Ans
- 1. Reverse repo rate
 - 2. Rent rate
 - 3. Repo rate
 - 4. Statutory rate

Question ID : 264330115323

Status : Answered

Chosen Option : 3

Q.16 नवंबर 2022 में, पश्चिम बंगाल के राज्यपाल के रूप में किसे नियुक्त किया गया?

- Ans
- 1. ला. गणेशन
 - 2. जगदीप धनखड़
 - 3. डी. वाई. पाटिल
 - 4. सी. वी. आनंद बोस

Question ID : 264330115026

Status : Answered

Chosen Option : 1

Q.17 निम्न में से कौन सा सौर मंडल का बाह्य ग्रह है?

- Ans
- 1. पृथ्वी
 - 2. शुक्र
 - 3. शनि
 - 4. बुध

Question ID : 26433087886
Status : Answered
Chosen Option : 3

Q.18 Which industry does aluminium smelting belong to?

- Ans
- 1. textile Industry
 - 2. sugar Industry
 - 3. metallurgical industry
 - 4. chemical industry

Question ID : 264330115570
Status : Answered
Chosen Option : 3

Q.19 The Goods and Services Tax, Act commenced from _____.

- Ans
- 1. 1 April 2018
 - 2. 1 April 2016
 - 3. 1 July 2017
 - 4. 1 July 2016

Question ID : 264330116207
Status : Answered
Chosen Option : 3

Q.20 _____ आयात को प्रतिबंधित करता है और घरेलू उत्पादकों की विदेशी प्रतिस्पर्धा में सहायता करता है।

- (A) टैरिफ
(B) कोटा

- Ans
- 1. A और B दोनों
 - 2. केवल A
 - 3. न तो A और न ही B
 - 4. केवल B

Question ID : 26433054781
Status : Answered
Chosen Option : 4

Q.1 $\frac{2}{5}$, $\frac{4}{15}$ और $\frac{6}{25}$ का लघुत्तम समापवर्त्य ज्ञात कीजिए।

- Ans
- 1. $\frac{5}{12}$
 - 2. $\frac{12}{5}$
 - 3. $\frac{12}{7}$
 - 4. $\frac{11}{5}$

Question ID : 26433090315

Status : Answered

Chosen Option : 2

Q.2 एक बेईमान व्यापारी 250 gm के बजाय 200 gm के गलत वजन का उपयोग करता है। उसका लाभ प्रतिशत क्या है?

- Ans
- 1. 10%
 - 2. 20%
 - 3. 15%
 - 4. 25%

Question ID : 26433075725

Status : Answered

Chosen Option : 4

Q.3 एक डीलर ने किसी वस्तु का मूल्य उसके क्रय मूल्य से 45% अधिक अंकित किया और 20% की छूट देकर उसे बेच दिया। उसका लाभ प्रतिशत ज्ञात कीजिए।

- Ans
- 1. 25%
 - 2. 16%
 - 3. 30%
 - 4. 20%

Question ID : 26433083039

Status : Answered

Chosen Option : 2

Q.4 एक व्यक्ति धारा के विपरीत दिशा में 15 km और धारा के दिशा में 18 km नौकायन करता है, उसे हर बार 3 घंटे लगते हैं। धारा की चाल कितनी है?

- Ans
- ✓ 1. $\frac{1}{2}$ km/h
 - ✗ 2. $\frac{3}{2}$ km/h
 - ✗ 3. 2 km/h
 - ✗ 4. 1 km/h

Question ID : 26433081045
Status : Answered
Chosen Option : 1

Q.5 Rs.70 प्रति kg वाले चावल के एक बैग में, दो अलग-अलग प्रकार के चावल मिश्रित किए जाते हैं। Rs.60 प्रति kg मूल्य वाले पहले प्रकार के चावल की मात्रा 8 kg है, जबकि दूसरे प्रकार के चावल की मात्रा 4 kg है। दूसरे प्रकार के चावल का मूल्य प्रति kg क्या है?

- Ans
- ✗ 1. Rs.80
 - ✗ 2. Rs.65
 - ✗ 3. Rs.75
 - ✓ 4. Rs.90

Question ID : 26433081638
Status : Answered
Chosen Option : 4

Q.6 एक स्टोर अपनी वस्तुएँ बेचने के लिए निम्नलिखित तीन योजनाओं की घोषणा करता है। इनमें से कौन-सी क्रेता को अधिकतम छूट प्रदान करती है?
A. 20% और 24% की दो क्रमागत छूट
B. 5 खरीदें, 3 मुफ्त पाएँ
C. 13 खरीदें, 7 मुफ्त पाएँ

- Ans
- ✗ 1. C
 - ✓ 2. A
 - ✗ 3. सभी समान हैं
 - ✗ 4. B

Question ID : 26433075763
Status : Answered
Chosen Option : 2

Q.7 एक अर्धगोले की त्रिज्या 21 cm है। इसका आयतन (cm^3 में) _____ होगा।
($\pi = 22/7$ का उपयोग करें)

- Ans
- ✓ 1. 19404
 - ✗ 2. 20112
 - ✗ 3. 22101
 - ✗ 4. 21109

Question ID : 26433085769
Status : Answered
Chosen Option : 1

Q.8 $65 \div 13 \times 4 + (35 \div 7 \times 9)^2 + 100 \div 5$ of 4×80 की गणना कीजिए।

- Ans
- 1. 2545
 - 2. 2345
 - 3. 2045
 - 4. 2445

Question ID : 26433075109

Status : Answered

Chosen Option : 4

Q.9 उस ठोस बेलन की ऊँचाई ज्ञात कीजिए, जिसकी त्रिज्या 7 cm है और संपूर्ण पृष्ठीय क्षेत्रफल 1144cm^2 है?
(संज्ञान लें $\pi = \frac{22}{7}$)

- Ans
- 1. 12 cm
 - 2. 19 cm
 - 3. 18 cm
 - 4. 22 cm

Question ID : 26433074945

Status : Answered

Chosen Option : 2

Q.10 एक गाँव की जनसंख्या 24000 है। यदि अगले वर्ष इसमें 4 प्रतिशत से कमी होने की सम्भावना है, तो अगले वर्ष गाँव की जनसंख्या कितनी होगी?

- Ans
- 1. 22560
 - 2. 23040
 - 3. 23520
 - 4. 22080

Question ID : 264330116811

Status : Answered

Chosen Option : 2

Q.11 एक निश्चित राशि पर समान ब्याज दर पर 2 वर्ष में वार्षिक चक्रवृद्धि के अधीन चक्रवृद्धि ब्याज और साधारण ब्याज में अंतर उस राशि का 144% है। वार्षिक ब्याज दर ज्ञात करें।

- Ans
- 1. 20%
 - 2. 120%
 - 3. 100%
 - 4. 15%

Question ID : 26433081724

Status : Answered

Chosen Option : 2

Q.12 यदि ब्याज 10% वार्षिक की चक्रवृद्धि दर से लगाया जाता है, जिसकी गणना वार्षिक चक्रवृद्धि आधार पर हो, तो कितना मूलधन 2 वर्षों में Rs.5,324 मिश्रधन हो जाएगा?

- Ans
- 1. Rs.4,420
 - 2. Rs.4,324
 - 3. Rs.4,440
 - 4. Rs.4,400

Question ID : 26433083045

Status : Answered

Chosen Option : 4

Q.13 यदि एक आयत की लंबाई में 15% की कमी और चौड़ाई में 10% की वृद्धि की जाती है, तो आयत के क्षेत्रफल में कितने प्रतिशत परिवर्तन होता है?

- Ans
- 1. 5.6% की कमी
 - 2. 6.5% की वृद्धि
 - 3. 5.6% की वृद्धि
 - 4. 6.5% की कमी

Question ID : 26433080293

Status : Answered

Chosen Option : 4

Q.14 एक बाइक 3 घंटे में 162 km की दूरी तय करती है। यह 5 घंटे में कितनी दूरी तय करेगी?

- Ans
- 1. 301 km
 - 2. 240 km
 - 3. 292 km
 - 4. 270 km

Question ID : 26433080121

Status : Answered

Chosen Option : 4

Q.15 M एक कार्य को 12 दिनों में और N 24 दिनों में पूरा कर सकता है। वे एक साथ शुरू करते हैं, लेकिन काम पूरा होने के 6 दिन पहले, M काम छोड़ देता है। कुल कार्य को पूरा करने के लिए दिनों की संख्या ज्ञात करें।

- Ans
- 1. 12 दिन
 - 2. 10 दिन
 - 3. 7 दिन
 - 4. 6 दिन

Question ID : 264330116891

Status : Answered

Chosen Option : 1

Q.16 S ने Rs. 40 प्रति kg के मूल्य पर चीनी खरीदी और Rs. x प्रति kg की दर से बेचता है। वजन तोलने वाली मशीन में खराबी के कारण मशीन 1 kg का वजन दिखाती है जबकि वास्तविक वजन 800 gm है। यदि उसका लाभ प्रतिशत 30% है, तो x का मान क्या है?

Ans 1. 48.6

2. 41.6

3. 52.1

4. 46.1

Question ID : 26433071255

Status : Answered

Chosen Option : 2

Q.17 रानी एक निश्चित चाल से घर से स्कूल जाती है और 50 km/h की चाल से घर वापस आती है। यदि उसके घर और स्कूल के बीच की दूरी 20 km है और पूरी यात्रा की औसत चाल 37.5 km/h है, तो घर से स्कूल तक उसकी चाल क्या थी?

Ans 1. 35 km/h

2. 45 km/h

3. 30 km/h

4. 40 km/h

Question ID : 26433075644

Status : Answered

Chosen Option : 3

Q.18 रवि एक दीवार को 6 घंटे में सजा सकता है, जबकि अंकिता उसी दीवार को 10 घंटे में सजा सकती है। वे एक साथ मिलकर कार्य करते हुए दीवार को कितने घंटे में सजा लेंगे?

Ans 1. 4.75 घंटे

2. 3 घंटे

3. 3.75 घंटे

4. 4 घंटे

Question ID : 26433080341

Status : Answered

Chosen Option : 3

Q.19 एक नाव धारा के विपरीत दिशा में 375 मीटर की एक दूरी को 30 मिनट में तय करती है और 18 मिनट में वापस प्रारंभिक बिंदु पर आ जाती है। शांत जल में नाव की चाल और धारा की चाल का अनुपात ज्ञात करें।

Ans 1. 7 : 13

2. 13 : 7

3. 4 : 1

4. 5 : 6

Question ID : 26433079958

Status : Answered

Chosen Option : 3

Q.20 यदि $a : b = 2 : 7$ है और a एवं b का तीसरा समानुपाती 343 है, तो $b - a$ का मान _____ है।

Ans 1. 70

2. 98

3. 126

4. 49

Question ID : 26433079942

Status : Answered

Chosen Option : 1

Section : Part-D-English

Q.1 Select the most appropriate option that can substitute the underlined segment in the given sentence.

If we have to send a mail today, we shall get a reply in two days.

Ans 1. If we will send a mail today

2. If we would send a mail today

3. If we send a mail today

4. If we have sending a mail today

Question ID : 26433092288

Status : Answered

Chosen Option : 3

Q.2 Select the most appropriate ANTONYM of the word given in the bracket to fill in the blank.

She was too (feeble) _____ to leave her room.

Ans 1. wimpy

2. strong

3. asthenic

4. effete

Question ID : 26433059597

Status : Answered

Chosen Option : 2

Q.3 Select the word segment that substitutes (replaces) the bracketed word segment correctly and completes the sentence meaningfully.

The thief who (have taken the pony) was found guilty by the jury.

Ans 1. has taken the pony

2. has took the pony

3. have took the pony

4. had taken the pony

Question ID : 26433088962

Status : Answered

Chosen Option : 4

Q.4 Select the most appropriate ANTONYM of the given word.

Cease

- Ans 1. Terminate
 2. Commence
 3. Quit
 4. Stop

Question ID : 26433074053
Status : Answered
Chosen Option : 2

Q.5 Select the MISSPELT word.

- Ans 1. Electricity
 2. Eccentricity
 3. Extrime
 4. Excite

Question ID : 26433086334
Status : Answered
Chosen Option : 3

Q.6 Select the most appropriate synonym of the underlined word in the given sentence.

Instead of studying rules and definitions, Helen acquired language through experience and habit.

- Ans 1. Awarded
 2. Forfeited
 3. Obtained
 4. Admired

Question ID : 26433084892
Status : Answered
Chosen Option : 3

Q.7 Select the most appropriate synonym of the given word.

Contagion

- Ans 1. Grandeur
 2. Illusion
 3. Transmission
 4. Transfusion

Question ID : 26433088759
Status : Answered
Chosen Option : 3

Q.8 Select the most appropriate meaning of the given idiom.

The best thing since sliced bread

- Ans
- 1. A sincerely made apology
 - 2. An openly performed confession
 - 3. A really good invention
 - 4. A thoroughly examined food

Question ID : 26433073490
Status : Answered
Chosen Option : 3

Q.9 Select the most appropriate option to complete the given sentence.

Mechanical Engineering students from IIT, Madras, have developed an unnamed sailing boat that can reach any given destination _____.

- Ans
- 1. verbally
 - 2. highly
 - 3. autonomously
 - 4. collaboratively

Question ID : 26433089089
Status : Answered
Chosen Option : 3

Q.10 Select the most appropriate synonym of the word given in the brackets to fill in the blank.

Consuming coffee every day can have _____ (negative) effects on one's health.

- Ans
- 1. hospitable
 - 2. arbitrary
 - 3. despairing
 - 4. adverse

Question ID : 26433071889
Status : Answered
Chosen Option : 4

Q.11 Select the most appropriate option to fill in the blank.

I am born and _____ in a cultured family.

- Ans
- 1. beard
 - 2. bare
 - 3. bred
 - 4. bread

Question ID : 26433060330
Status : Answered
Chosen Option : 4

Q.12 Identify the INCORRECT spelling from the given sentence and select its correct spelling.

Voting allows every citezen to have a say in choosing who should run the government.

- Ans
- 1. chosing
 - 2. government
 - 3. allouse
 - 4. citizen

Question ID : 26433072039
Status : Answered
Chosen Option : 4

Q.13 Select the option that expresses the given sentence in past tense form.

The home nurse is expecting a salary hike from the relatives of the new family.

- Ans
- 1. The home nurse has been expecting a salary hike from the relatives of the new family.
 - 2. The home nurse was expecting a salary hike from the relatives of the new family.
 - 3. The home nurse expects a salary hike from the relatives of the new family.
 - 4. The home nurse will be expecting a salary hike from the relatives of the new family.

Question ID : 26433089296
Status : Answered
Chosen Option : 2

Q.14 Select the most appropriate meaning of the given idiom.

To be in the doldrums

- Ans
- 1. To be in high energy and happiness
 - 2. To be in helpless condition
 - 3. To be in utter confusion
 - 4. To be in low and dull spirits

Question ID : 26433073479
Status : Answered
Chosen Option : 4

Q.15 Select the most appropriate option that can substitute the underlined segment in the given sentence.

There is a few rice left in the cooker.

- Ans
- 1. little rice left in
 - 2. less rice left on
 - 3. any rice left in
 - 4. fewest rice left in

Question ID : 26433099867
Status : Answered
Chosen Option : 1

Comprehension:

In the following passage some words have been deleted. Fill in the blanks with the help of the alternatives given. Select the most appropriate option for each number.

A low-pressure area characterised by rapid and frequently damaging air circulation is what (1)_____ cyclones. Storms and (2)_____ weather are frequently present during cyclones. In the Northern hemisphere, the air moves counter clockwise, (3)_____, in the Southern hemisphere, it moves clockwise. Extratropical cyclones, sometimes known as temperate cyclones, and tropical cyclones are the two (4)_____ under which cyclones fall. The name 'Cyclone' comes from the Greek word 'Cyclos' which means a snake's coils. Henry Paddington came up with the term because tropical storms in the Arabian Sea and Bay of Bengal (5)_____ coiled sea serpents.

SubQuestion No : 16

Q.16 Select the most appropriate answer for blank 1.

- Ans
- 1. spawns
 - 2. destroys
 - 3. generates
 - 4. inspires

Question ID : 26433092917

Status : Answered

Chosen Option : 3

Comprehension:

In the following passage some words have been deleted. Fill in the blanks with the help of the alternatives given. Select the most appropriate option for each number.

A low-pressure area characterised by rapid and frequently damaging air circulation is what (1)_____ cyclones. Storms and (2)_____ weather are frequently present during cyclones. In the Northern hemisphere, the air moves counter clockwise, (3)_____, in the Southern hemisphere, it moves clockwise. Extratropical cyclones, sometimes known as temperate cyclones, and tropical cyclones are the two (4)_____ under which cyclones fall. The name 'Cyclone' comes from the Greek word 'Cyclos' which means a snake's coils. Henry Paddington came up with the term because tropical storms in the Arabian Sea and Bay of Bengal (5)_____ coiled sea serpents.

SubQuestion No : 17

Q.17 Select the most appropriate answer for blank 2.

- Ans
- 1. unfavourable
 - 2. accustomed
 - 3. advantageous
 - 4. unaccepted

Question ID : 26433092918

Status : Answered

Chosen Option : 1

Comprehension:

In the following passage some words have been deleted. Fill in the blanks with the help of the alternatives given. Select the most appropriate option for each number.

A low-pressure area characterised by rapid and frequently damaging air circulation is what (1)_____ cyclones. Storms and (2)_____ weather are frequently present during cyclones. In the Northern hemisphere, the air moves counter clockwise, (3)_____, in the Southern hemisphere, it moves clockwise. Extratropical cyclones, sometimes known as temperate cyclones, and tropical cyclones are the two (4)_____ under which cyclones fall. The name 'Cyclone' comes from the Greek word 'Cyclos' which means a snake's coils. Henry Paddington came up with the term because tropical storms in the Arabian Sea and Bay of Bengal (5)_____ coiled sea serpents.

SubQuestion No : 18

Q.18 Select the most appropriate answer for blank 3.

- Ans 1. whereas
 2. because
 3. or
 4. unless

Question ID : 26433092919

Status : Answered

Chosen Option : 1

Comprehension:

In the following passage some words have been deleted. Fill in the blanks with the help of the alternatives given. Select the most appropriate option for each number.

A low-pressure area characterised by rapid and frequently damaging air circulation is what (1)_____ cyclones. Storms and (2)_____ weather are frequently present during cyclones. In the Northern hemisphere, the air moves counter clockwise, (3)_____, in the Southern hemisphere, it moves clockwise. Extratropical cyclones, sometimes known as temperate cyclones, and tropical cyclones are the two (4)_____ under which cyclones fall. The name 'Cyclone' comes from the Greek word 'Cyclos' which means a snake's coils. Henry Paddington came up with the term because tropical storms in the Arabian Sea and Bay of Bengal (5)_____ coiled sea serpents.

SubQuestion No : 19

Q.19 Select the most appropriate answer for blank 4.

- Ans 1. categories
 2. ranks
 3. species
 4. statuses

Question ID : 26433092920

Status : Answered

Chosen Option : 1

Comprehension:

In the following passage some words have been deleted. Fill in the blanks with the help of the alternatives given. Select the most appropriate option for each number.

A low-pressure area characterised by rapid and frequently damaging air circulation is what (1)_____ cyclones. Storms and (2)_____ weather are frequently present during cyclones. In the Northern hemisphere, the air moves counter clockwise, (3)_____, in the Southern hemisphere, it moves clockwise. Extratropical cyclones, sometimes known as temperate cyclones, and tropical cyclones are the two (4)_____ under which cyclones fall. The name 'Cyclone' comes from the Greek word 'Cyclos' which means a snake's coils. Henry Paddington came up with the term because tropical storms in the Arabian Sea and Bay of Bengal (5)_____ coiled sea serpents.

SubQuestion No : 20

Q.20 Select the most appropriate answer for blank 5.

- Ans 1. collect
 2. negate
 3. resemble
 4. mimic

Question ID : 26433092921

Status : Answered

Chosen Option : 3

Section : Part-D-Hindi

Q.1 "सीमा की बात सुनकर जया को आश्चर्य हुआ।"
उक्त वाक्य में प्रयुक्त 'आश्चर्य' के स्थान पर उसके समानार्थी शब्द का प्रयोग निम्न में से किस वाक्य में नहीं किया गया है?

- Ans 1. सीमा की बात सुनकर जया को अचरज हुआ।
 2. सीमा की बात सुनकर जया को मनोरथ लगा।
 3. सीमा की बात सुनकर जया को विस्मय हुआ।
 4. सीमा की बात सुनकर जया को अचंभा हुआ।

Question ID : 26433067033

Status : Not Answered

Chosen Option : --

Q.2 निम्न में से क्या 'चंद्रमा' शब्द का पर्यायवाची है?

- Ans 1. अंशुमाली
 2. दिनकर
 3. शशि
 4. घोटक

Question ID : 26433067072

Status : Not Answered

Chosen Option : --

Q.3 निम्नलिखित विकल्पों में से 'जो कभी बूढ़ा न हो' वाक्यांश के लिए एक सार्थक शब्द क्या होगा ?

- Ans
- 1. अजर
 - 2. अपार
 - 3. अमर
 - 4. अजन्मा

Question ID : 26433062534

Status : Not Answered

Chosen Option : --

Q.4 'घोड़े बेचकर _____।' उपरोक्त मुहावरे में रिक्त स्थान की पूर्ति उचित शब्द द्वारा कीजिए।

- Ans
- 1. सोना
 - 2. घूमना
 - 3. खाना
 - 4. रहना

Question ID : 26433069684

Status : Not Answered

Chosen Option : --

Q.5 निम्नलिखित वाक्य में रेखांकित शब्द का पर्यायवाची शब्द क्या होगा? कमज़ोर अदमी को एक ना एक रोग लगा रहता है।

- Ans
- 1. व्याधि
 - 2. अभिशाप
 - 3. वरदान
 - 4. बहाना

Question ID : 26433085070

Status : Not Answered

Chosen Option : --

Q.6 'जिसे वचन द्वारा व्यक्त नहीं किया जा सके' वाक्यांश के लिए उचित शब्द क्या होगा?

- Ans
- 1. अनुकरणीय
 - 2. अलौकिक
 - 3. अनिवार्य
 - 4. अनिर्वचनीय

Question ID : 26433067064

Status : Not Answered

Chosen Option : --

Q.7 निम्न वाक्यांश के लिए सही एक-शब्द का चयन विकल्पों में से कीजिए।
जो कल्पना से परे हो

- Ans
- 1. कालातीत
 - 2. काल्पनिक
 - 3. प्रामाणिक
 - 4. कल्पनातीत

Question ID : 26433070101
Status : Not Answered
Chosen Option : --

Q.8 'बाँछे खिल जाना' मुहावरे का सही अर्थ है -

- Ans
- 1. सुंदर हो जाना
 - 2. फूल खिल जाना
 - 3. प्रसन्न हो जाना
 - 4. दोस्त मिल जाना

Question ID : 26433065927
Status : Not Answered
Chosen Option : --

Q.9 'उसके प्राण पखेरू चले गए।' में रेखांकित शब्द के स्थान पर उपयुक्त शब्द क्या होगा?

- Ans
- 1. उड़
 - 2. तैर
 - 3. सो
 - 4. गुम

Question ID : 26433066797
Status : Not Answered
Chosen Option : --

Q.10 निम्नलिखित वाक्य में रेखांकित खंड के स्थान पर प्रयुक्त होने वाले सबसे उपयुक्त विकल्प का चयन कीजिए।
श्याम ने बर्फी खाया।

- Ans
- 1. खा
 - 2. खाली
 - 3. खाए
 - 4. खाई

Question ID : 26433079660
Status : Not Answered
Chosen Option : --

Q.11 निम्न विकल्पों में से शुद्ध वाक्य का चयन कीजिए।

- Ans
- 1. श्रद्धा के द्वारा उसका मस्तक नत था।
 - 2. पढ़ाई की वजह से उसकी आँखें कमजोर हो गयीं।
 - 3. मोहन भूख में तड़प रहा था।
 - 4. वह चिंता करती – करती मर गए।

Question ID : 26433063072

Status : Not Answered

Chosen Option : --

Q.12 निम्नलिखित में से कौन सा वर्तनी की दृष्टि से अशुद्ध वाक्य है?

- Ans
- 1. मैं उसे चुप रहने को कहता रहा पर उसने एक नहीं सुनी।
 - 2. पोत नष्ट हो गया, पर यात्रीयों को बचा लिया गया।
 - 3. वह उस स्कूल में पढ़ा जो उसके गाँव के निकट था।
 - 4. पृथ्वी गोल है और हम इसे प्रमाणित कर सकते हैं।

Question ID : 26433062895

Status : Not Answered

Chosen Option : --

Q.13 संसार शूर को हमेशा उसकी बहादुरी के लिए याद करता है और _____ को उसकी कायरता के लिए।

'शूर' के विलोम शब्द से उपरोक्त वाक्य पूर्ण कीजिए।

- Ans
- 1. दिलेर
 - 2. निर्भय
 - 3. भीरु
 - 4. सरस

Question ID : 26433080873

Status : Not Answered

Chosen Option : --

Q.14 निम्नलिखित में से 'सम्बन्धवाचक सर्वनाम' सम्बन्धी अशुद्धि वाले वाक्य की पहचान कीजिए।

- Ans
- 1. यह वही आदमी है, जिसका पुत्र परीक्षा में अव्वल आया है।
 - 2. जो मेहनत करते हैं, वे सफल होते हैं।
 - 3. यह वही फिल्म है, जिसे तुम देखना चाहते हो।
 - 4. मेरी वह किताब खो गयी एक मैंने कल पुस्तक मेले से खरीदा था।

Question ID : 26433063006

Status : Not Answered

Chosen Option : --

Q.15 निम्नलिखित विकल्पों में से किस एक वाक्य में विशेषण का उचित प्रयोग किया गया है?

- Ans
- 1. नीना खाती है।
 - 2. शीला सोती है।
 - 3. राधा के लम्बे बाल हैं।
 - 4. करीम खेलता है।

Question ID : 26433062964

Status : Not Answered

Chosen Option : --

Comprehension:

आगे पूछे गए प्रश्न संख्या 1 से 5 तक के उत्तर निम्न गद्यांश के आधार पर दीजिए।
आचार्य महावीर प्रसाद द्विवेदी ने यह अकारण नहीं कहा था कि 'साहित्य समाज का दर्पण है। निःसंदेह साहित्य और समाज का अटूट संबंध है। साहित्य समाज का प्रतिबिंब भी है और मार्गदर्शक भी। मानव समाज का हित चिंतन और उसका पथप्रदर्शन करना साहित्य का लक्ष्य है। साहित्य, (1) _____ की चेतना को विकसित करता है। साहित्य वह है जिसमें समाज अपना चेहरा देखता है। साहित्य ही वह है जो समाज की शोभा, उसकी यशसंपन्नता एवं मान-मर्यादा को प्रतिबिंबित करता है। यदि समाज शरीर है, तो साहित्य उसकी (2) _____ है। जिस समाज का साहित्य जितना समृद्ध एवं (3) _____ होता है, वह समाज उतना ही श्रेष्ठ माना जाता है। समाज का नवसृजन करने वाला साहित्य एक सशक्त माध्यम तो है ही, यह (4) _____ के सम्मुख बहुत ही सहज ढंग से (5) _____ की सभ्यता और संस्कृति को भी प्रस्तुत करता है।

SubQuestion No : 16

Q.16 रिक्त स्थान (1) के लिए सर्वाधिक उपयुक्त शब्द इनमें से कौन सा होगा?

- Ans
- 1. कविता
 - 2. राजनीति
 - 3. कहानी
 - 4. समाज

Question ID : 26433092220

Status : Not Answered

Chosen Option : --

Comprehension:

आगे पूछे गए प्रश्न संख्या 1 से 5 तक के उत्तर निम्न गद्यांश के आधार पर दीजिए।
आचार्य महावीर प्रसाद द्विवेदी ने यह अकारण नहीं कहा था कि 'साहित्य समाज का दर्पण है। निःसंदेह साहित्य और समाज का अटूट संबंध है। साहित्य समाज का प्रतिबिंब भी है और मार्गदर्शक भी। मानव समाज का हित चिंतन और उसका पथप्रदर्शन करना साहित्य का लक्ष्य है। साहित्य, (1) _____ की चेतना को विकसित करता है। साहित्य वह है जिसमें समाज अपना चेहरा देखता है। साहित्य ही वह है जो समाज की शोभा, उसकी यशसंपन्नता एवं मान-मर्यादा को प्रतिबिंबित करता है। यदि समाज शरीर है, तो साहित्य उसकी (2) _____ है। जिस समाज का साहित्य जितना समृद्ध एवं (3) _____ होता है, वह समाज उतना ही श्रेष्ठ माना जाता है। समाज का नवसृजन करने वाला साहित्य एक सशक्त माध्यम तो है ही, यह (4) _____ के सम्मुख बहुत ही सहज ढंग से (5) _____ की सभ्यता और संस्कृति को भी प्रस्तुत करता है।

SubQuestion No : 17

Q.17 रिक्त स्थान (2) के लिए सर्वाधिक उपयुक्त शब्द इनमें से कौन सा होगा?

- Ans
- 1. भावना
 - 2. बुद्धि
 - 3. आत्मा
 - 4. आँख

Question ID : 26433092221

Status : Not Answered

Chosen Option : --

Comprehension:

आगे पूछे गए प्रश्न संख्या 1 से 5 तक के उत्तर निम्न गद्यांश के आधार पर दीजिए।
आचार्य महावीर प्रसाद द्विवेदी ने यह अकारण नहीं कहा था कि 'साहित्य समाज का दर्पण है। निःसंदेह साहित्य और समाज का अटूट संबंध है। साहित्य समाज का प्रतिबिंब भी है और मार्गदर्शक भी। मानव समाज का हित चिंतन और उसका पथप्रदर्शन करना साहित्य का लक्ष्य है। साहित्य, (1) _____ की चेतना को विकसित करता है। साहित्य वह है जिसमें समाज अपना चेहरा देखता है। साहित्य ही वह है जो समाज की शोभा, उसकी यशसंपन्नता एवं मान-मर्यादा को प्रतिबिंबित करता है। यदि समाज शरीर है, तो साहित्य उसकी (2) _____ है। जिस समाज का साहित्य जितना समृद्ध एवं (3) _____ होता है, वह समाज उतना ही श्रेष्ठ माना जाता है। समाज का नवसृजन करने वाला साहित्य एक सशक्त माध्यम तो है ही, यह (4) _____ के सम्मुख बहुत ही सहज ढंग से (5) _____ की सभ्यता और संस्कृति को भी प्रस्तुत करता है।

SubQuestion No : 18

Q.18 रिक्त स्थान (3) के लिए सर्वाधिक उपयुक्त शब्द इनमें से कौन सा होगा?

- Ans
- 1. उन्नति
 - 2. प्रोन्नत
 - 3. अवनत
 - 4. उन्नत

Question ID : 26433092222

Status : Not Answered

Chosen Option : --

Comprehension:

आगे पूछे गए प्रश्न संख्या 1 से 5 तक के उत्तर निम्न गद्यांश के आधार पर दीजिए।
आचार्य महावीर प्रसाद द्विवेदी ने यह अकारण नहीं कहा था कि 'साहित्य समाज का दर्पण है। निःसंदेह साहित्य और समाज का अटूट संबंध है। साहित्य समाज का प्रतिबिंब भी है और मार्गदर्शक भी। मानव समाज का हित चिंतन और उसका पथप्रदर्शन करना साहित्य का लक्ष्य है। साहित्य, (1) _____ की चेतना को विकसित करता है। साहित्य वह है जिसमें समाज अपना चेहरा देखता है। साहित्य ही वह है जो समाज की शोभा, उसकी यशसंपन्नता एवं मान-मर्यादा को प्रतिबिंबित करता है। यदि समाज शरीर है, तो साहित्य उसकी (2) _____ है। जिस समाज का साहित्य जितना समृद्ध एवं (3) _____ होता है, वह समाज उतना ही श्रेष्ठ माना जाता है। समाज का नवसृजन करने वाला साहित्य एक सशक्त माध्यम तो है ही, यह (4) _____ के सम्मुख बहुत ही सहज ढंग से (5) _____ की सभ्यता और संस्कृति को भी प्रस्तुत करता है।

SubQuestion No : 19

Q.19 रिक्त स्थान (4) के लिए सर्वाधिक उपयुक्त शब्द इनमें से कौन सा होगा?

- Ans
- 1. जनमंच
 - 2. जनसामान्य
 - 3. जागरण
 - 4. जनमन

Question ID : 26433092223

Status : Not Answered

Chosen Option : --

Comprehension:

आगे पूछे गए प्रश्न संख्या 1 से 5 तक के उत्तर निम्न गद्यांश के आधार पर दीजिए।
आचार्य महावीर प्रसाद द्विवेदी ने यह अकारण नहीं कहा था कि 'साहित्य समाज का दर्पण है। निःसंदेह साहित्य और समाज का अटूट संबंध है। साहित्य समाज का प्रतिबिंब भी है और मार्गदर्शक भी। मानव समाज का हित चिंतन और उसका पथप्रदर्शन करना साहित्य का लक्ष्य है। साहित्य, (1) _____ की चेतना को विकसित करता है। साहित्य वह है जिसमें समाज अपना चेहरा देखता है। साहित्य ही वह है जो समाज की शोभा, उसकी यशसंपन्नता एवं मान-मर्यादा को प्रतिबिंबित करता है। यदि समाज शरीर है, तो साहित्य उसकी (2) _____ है। जिस समाज का साहित्य जितना समृद्ध एवं (3) _____ होता है, वह समाज उतना ही श्रेष्ठ माना जाता है। समाज का नवसृजन करने वाला साहित्य एक सशक्त माध्यम तो है ही, यह (4) _____ के सम्मुख बहुत ही सहज ढंग से (5) _____ की सभ्यता और संस्कृति को भी प्रस्तुत करता है।

SubQuestion No : 20

Q.20 रिक्त स्थान (5) के लिए सर्वाधिक उपयुक्त शब्द इनमें से कौन सा होगा?

- Ans
- 1. दासता
 - 2. दहशत
 - 3. देशकाल
 - 4. दक्षता

Question ID : 26433092224

Status : Not Answered

Chosen Option : --

KD Job Update

Constable GD in CAPFs SSF Rifleman GD in Assam Rifles and Sepoy in NCB Examination 2022

Roll Number	KD Job Updates
Candidate Name	KD Job Updates
Venue Name	Pawan Ganga Educational Centre 1
Exam Date	16/01/2023
Exam Time	11:45 AM - 12:45 PM
Subject	Constable GD Examination 2022

Section : Part-A-General Intelligence and Reasoning

Q.1 उस विकल्प का चयन करें जो पांचवें पद से उसी प्रकार संबंधित है जैसे दूसरा पद पहले पद से और चौथा पद तीसरे पद से संबंधित है।

MEMORY : NFNPSZ :: BRAIN: CSBJO :: DREAM : ?

- Ans
- 1. NBFEF
 - 2. ESFBN
 - 3. EFFSE
 - 4. NBFSE

Question ID : 26433057688

Status : Answered

Chosen Option : 2

Q.2 दर्पण को नीचे दिए गए चित्र के अनुसार MN पर रखे जाने पर दी गई आकृति का दर्पण में निर्मित सही प्रतिबिंब चयनित कीजिए।



- Ans
- 1. T 2 G B F d 8 7
 - 2. T 5 G B F q 8 7
 - 3. T 5 G B F p 8 7
 - 4. T 5 G B F q 8 7

Question ID : 26433080811

Status : Answered

Chosen Option : 2

Q.3 तीन कथनों के बाद तीन निष्कर्ष I, II और III दिए गए हैं। कथनों को सत्य मानते हुए, भले ही वे सामान्य रूप से ज्ञात तथ्यों से भिन्न प्रतीत होते हों, निर्धारित करें कि कौन-सा/से निष्कर्ष कथनों का तार्किक रूप से अनुसरण करता है/करते हैं।

कथन:

सभी पेंसिल घर हैं।

सभी घर कार हैं।

सभी कार ट्रक हैं।

निष्कर्ष:

I. कुछ घर पेंसिल हैं।

II. कुछ कार घर हैं।

III. कुछ ट्रक कार हैं।

Ans 1. सभी निष्कर्ष अनुसरण करते हैं।

2. निष्कर्ष I और II दोनों अनुसरण करते हैं।

3. निष्कर्ष I और III दोनों अनुसरण करते हैं।

4. निष्कर्ष II और III दोनों अनुसरण करते हैं।

Question ID : 26433074634

Status : Answered

Chosen Option : 1

Q.4 उस विकल्प का चयन करें जो तीसरे शब्द से उसी प्रकार संबंधित है जैसे दूसरा शब्द पहले शब्द से संबंधित है। (शब्दों को अर्थपूर्ण शब्दों के रूप में मानना है, और उन्हें शब्द में अक्षरों/व्यंजनों/स्वरों की संख्या के आधार पर एक-दूसरे से संबंधित नहीं करना है।)

डॉक्टर : स्टेथोस्कोप :: लोहार : ?

Ans 1. निहाई (एनविल)

2. कुल्हाड़ी

3. लोहा

4. कलम

Question ID : 26433086257

Status : Answered

Chosen Option : 3

Q.5 आठ व्यक्ति, D, E, G, H, K, L, S और T एक सीधी पंक्ति में उत्तर की ओर मुख करके बैठे हैं। E पंक्ति के दाएं सिरे से चौथे स्थान पर बैठा है। G और E के बीच में कोई नहीं बैठा है। G, H के दाईं ओर तीसरे स्थान पर बैठा है। K और H के बीच केवल पांच व्यक्ति बैठे हैं। L, T के दाईं ओर ठीक बगल में बैठा है। S पंक्ति के किसी भी सिरे पर नहीं बैठा है। S और D के मध्य कितने व्यक्ति बैठे हैं?

Ans 1. एक

2. दो

3. दो से अधिक

4. कोई नहीं

Question ID : 26433092423

Status : Answered

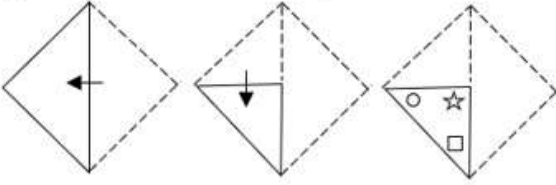
Chosen Option : 1

Q.6 'A + B' का अर्थ है 'A, B का भाई है'।
 'A - B' का अर्थ है 'A, B की माँ है'।
 'A × B' का अर्थ है 'A, B का पति है'।
 'A ÷ B' का अर्थ है 'A, B की बहन है'।
 'A @ B' का अर्थ है 'A, B का बेटा है'।
 यदि $C ÷ D @ E × F - G$ है, तो C, G से किस प्रकार संबंधित है?

- Ans
- 1. जीजा
 - 2. भाई
 - 3. मौसी
 - 4. बहन

Question ID : 26433087003
 Status : Answered
 Chosen Option : 4

Q.7 एक कागज को नीचे दिखाए अनुसार मोड़ा और काटा गया है। कागज की तह खुलने पर यह कैसा दिखाई देगा?




Ans

- 1.
- 2.
- 3.
- 4.

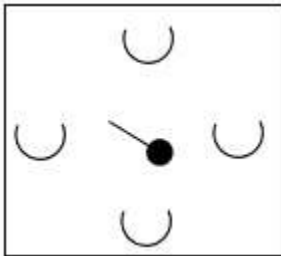
Question ID : 26433090951
 Status : Answered
 Chosen Option : 3

Q.8 दिए गए विकल्पों में से उस आकृति का चयन करें जो निम्न श्रृंखला में प्रश्नवाचक चिन्ह (?) के स्थान पर आ सकती है।

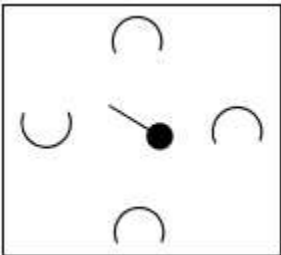


Ans

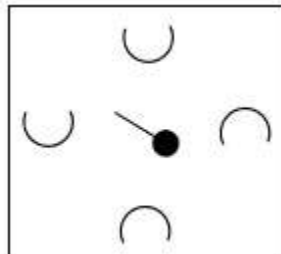
✗ 1.



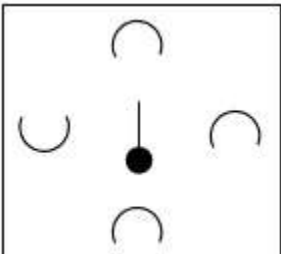
✗ 2.



✓ 3.



✗ 4.



KD Job Updates

Question ID : 26433080766

Status : Answered

Chosen Option : 3

Q.9 निम्नलिखित में से कौन सा विकल्प दी गई श्रृंखला में प्रश्न चिह्न (?) को प्रतिस्थापित करेगा?
7, 14, 28, 56, ?, 224, 448

Ans ✗ 1. 124

✗ 2. 116

✗ 3. 108

✓ 4. 112

Question ID : 26433089443

Status : Answered

Chosen Option : 4

Q.10 उस समुच्चय का चयन करें, जिसकी संख्याओं के बीच ठीक वही संबंध है, जो संबंध निम्नांकित समुच्चयों की संख्याओं में हैं।
(नोट: संख्याओं को उसके घटक अंकों में विभाजित किए बिना, पूर्ण संख्याओं पर ही गणितीय संक्रियाएँ की जानी चाहिए। जैसे 13 - मान लीजिए 13 पर गणितीय संक्रियाएँ जैसे कि 13 में जोड़ना/घटाना/गुणा करना आदि किया जा सकता है। 13 को 1 और 3 में तोड़कर और फिर 1 और 3 पर गणितीय संक्रियाएँ करने की अनुमति नहीं है।)
(10, 450, 5)
(8, 360, 5)

Ans 1. (7, 189, 3)

2. (9, 223, 3)

3. (9, 340, 4)

4. (7, 285, 5)

Question ID : 26433076536

Status : Answered

Chosen Option : 1

Q.11 एक निश्चित कूट भाषा में, यदि FLED को 3921 के रूप में और GIFT को 46317 के रूप में कूटबद्ध किया जाता है, तो उसी भाषा में HUNK को कैसे कूटबद्ध किया जाएगा?

Ans 1. 720107

2. 19211316

3. 518118

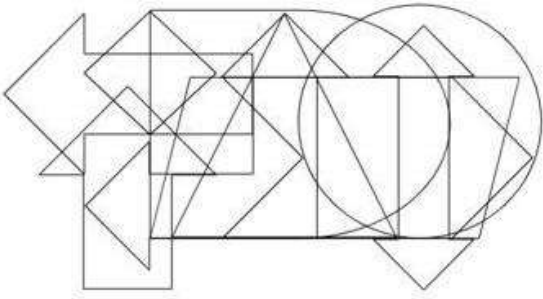
4. 8211411

Question ID : 26433068066

Status : Answered

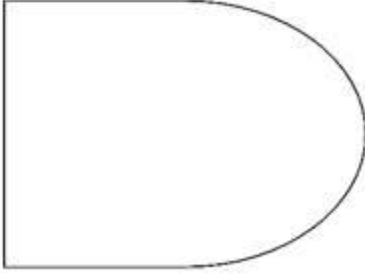
Chosen Option : 3

Q.12 उस विकल्प आकृति का चयन करें जो नीचे दी गई आकृति में अंतर्निहित है। (आकृति घुमाने की अनुमति नहीं है)

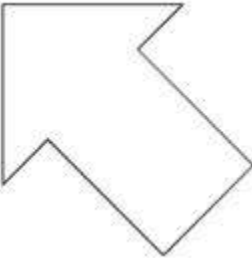


Ans

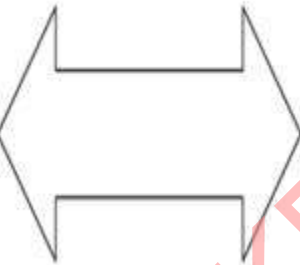
✓ 1.



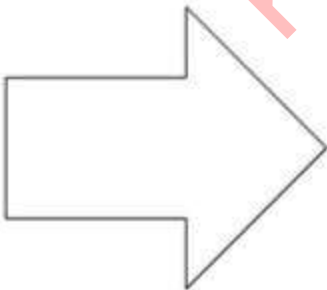
✗ 2.



✗ 3.



✗ 4.



KD Job Updates

Question ID : 26433085743

Status : Answered

Chosen Option : 1

Q.13 कौन-सा अक्षर-समूह दी गई शृंखला में प्रश्नचिह्न (?) के स्थान पर आकर शृंखला को पूर्ण करेगा?
DKBN, EMYP, ?, GQST, HSPV

- Ans 1. HVRO
 2. FOVR
 3. GHVR
 4. ROVF

Question ID : 26433079423

Status : Answered

Chosen Option : 2

Q.14 एक निश्चित कूट भाषा में शब्द 'FAME' को 'IDPH' लिखा जाता है। शब्द 'PINK' को 'SLQN' लिखा जाता है। उसी भाषा में शब्द 'RUDE' को कैसे लिखा जाएगा?

- Ans 1. TWHG
 2. TXGI
 3. UXGH
 4. UVIG

Question ID : 26433090104

Status : Answered

Chosen Option : 3

Q.15 निम्नलिखित में से कौन-सा पद दी गई शृंखला में प्रश्न-चिह्न (?) के स्थान पर आएगा?
BWGV, CUJR, DSMN, EQPJ, ?

- Ans 1. FSSN
 2. FOSF
 3. FSSF
 4. FOSE

Question ID : 26433069450

Status : Answered

Chosen Option : 2

Q.16 किस विकल्प में निम्नलिखित शब्दों का वह क्रम दिया गया है, जिस क्रम में वे अंग्रेजी शब्दकोश में आते हैं?

- 1 Mountain
- 2 Mould
- 3 Monster
- 4 Mouth
- 5 Moving

- Ans 1. 4, 3, 2, 1, 5
 2. 1, 2, 3, 4, 5
 3. 2, 3, 1, 4, 5
 4. 3, 2, 1, 4, 5

Question ID : 26433081635

Status : Answered

Chosen Option : 4

Q.17 छः विद्यार्थी एक वृत्ताकार मेज के परितः मेज के केंद्र की ओर मुख करके बैठे हैं। A, C के बाईं ओर ठीक बगल में बैठा है। E, D के दाईं ओर तीसरे स्थान पर बैठा है। D, C के ठीक बगल में बैठा है। B, E और F दोनों के ठीक बगल में बैठा है। किसी भी ओर से C और B के बीच में कितने व्यक्ति बैठे हैं?

- Ans 1. 2
 2. 3
 3. 0
 4. 1

Question ID : 26433079504
Status : Answered
Chosen Option : 1

Q.18 विकल्पों में दिए गए गणितीय चिह्नों का कौन सा संयोजन निम्न समीकरण में * चिह्नों के स्थान पर क्रमिक रूप से आकर समीकरण को संतुलित करेगा?

$$14 * 3 * 8 * 8 * 6 * 7$$

- Ans 1. +, ×, ×, -, =
 2. ×, +, -, =, ×
 3. -, =, +, ×, ×
 4. +, ×, =, -, ×

Question ID : 26433094990
Status : Answered
Chosen Option : 2

Q.19 निम्नलिखित में से कौन-सी संख्या दी गई श्रृंखला में प्रश्न-चिह्न (?) को प्रतिस्थापित करेगी?
2, 4, 6, 10, 14, ?, 26, 34, 42

- Ans 1. 24
 2. 20
 3. 25
 4. 22

Question ID : 26433083119
Status : Answered
Chosen Option : 2

Q.20 नीचे दिए गए समीकरण को गणितीय रूप से सही बनाने के लिए किन दो चिह्नों को परस्पर बदलना चाहिए?

$$3 \times 144 - 6 \div 40 + 20 = 52$$

- Ans 1. + और ÷
 2. + और ×
 3. - और +
 4. ÷ और -

Question ID : 264330117560
Status : Answered
Chosen Option : 4

Q.1 पाटलिपुत्र में स्थानांतरित होने से पहले _____ कई वर्षों तक मगध की राजधानी थी।

- Ans
- 1. राजगृह
 - 2. सारनाथ
 - 3. उज्जैन
 - 4. तक्षशीला

Question ID : 26433085230

Status : Answered

Chosen Option : 1

Q.2 कायाकल्प और शहरी परिवर्तन के लिए अटल मिशन (AMRUT) 2.0 दिशानिर्देश हमारे शहरों को _____ बनाने में राज्यों की सहायता करने के उद्देश्य से तैयार किए गए हैं।

- Ans
- 1. तकनीकी रूप से अनुकूल
 - 2. आर्थिक रूप से सुरक्षित
 - 3. जल सुरक्षित
 - 4. ऋण सुरक्षित

Question ID : 264330116180

Status : Not Answered

Chosen Option : --

Q.3 रेलवे ईयरबुक 2019-20 के अनुसार, भारत में छोटी लाइन की लंबाई (कि.मी. में) कितनी है?

- Ans
- 1. 12365
 - 2. 9876
 - 3. 20334
 - 4. 1604

Question ID : 264330115594

Status : Not Answered

Chosen Option : --

Q.4 निम्नलिखित में से किस भारतीय मंत्री ने संयुक्त राष्ट्र जलवायु परिवर्तन रूपरेखा सम्मेलन (COP27) में स्वीडन के साथ लीडआईटी (LeadIT) शिखर सम्मेलन की मेजबानी की?

- Ans
- 1. गजेन्द्र सिंह शेखावत
 - 2. नारायण राणे
 - 3. भूपेंद्र यादव
 - 4. किरण रिजिजू

Question ID : 264330115050

Status : Not Answered

Chosen Option : --

Q.5 निचल राष्ट्रीय उत्पाद के संबंध में निम्नलिखित में से कौन सा सही है?

- Ans
- ✓ 1. एन. एन. पी. \equiv जी. एन. पी. – मूल्यहास
 - ✗ 2. एन. एन. पी. \equiv जी. एन. पी. + मूल्यहास
 - ✗ 3. एन. एन. पी. \equiv जी. एन. पी. + मूल्यहास
 - ✗ 4. एन. एन. पी. \equiv जी. एन. पी. \times मूल्यहास

Question ID : 264330115347

Status : Not Answered

Chosen Option : --

Q.6 1867 में बंबई में किस संस्था की स्थापना हुई?

- Ans
- ✓ 1. प्रार्थना समाज
 - ✗ 2. थियोसोफिकल सोसाइटी
 - ✗ 3. युवा बंगाल आंदोलन
 - ✗ 4. राम कृष्ण मिशन

Question ID : 264330115724

Status : Answered

Chosen Option : 1

Q.7 निम्नलिखित में से कौन सा कथन बास्केटबॉल के संदर्भ में सही है?

- Ans
- ✗ 1. बास्केटबॉल खेल का आविष्कार 1981 में हुआ था।
 - ✗ 2. एक खिलाड़ी को 20 सेकंड के भीतर प्रतिस्थापित किया जाना होता है।
 - ✗ 3. प्रत्येक बास्केटबॉल का भार कम से कम 700 ग्राम होना चाहिए।
 - ✓ 4. खेल शुरू करने के लिए पांच-पांच खिलाड़ियों की दो टीमों की आवश्यकता होती है।

Question ID : 26433089938

Status : Not Answered

Chosen Option : --

Q.8 वर्ष 2015 में योजना आयोग के स्थान पर _____ का गठन किया गया था।

- Ans
- ✗ 1. भारतीय प्रतिस्पर्धा आयोग
 - ✗ 2. मौद्रिक नीति समिति
 - ✗ 3. NaBFID
 - ✓ 4. नीति आयोग

Question ID : 26433066658

Status : Answered

Chosen Option : 4

Q.9 निम्नलिखित में से कौन-सा राज्य बाँस ड्रिप सिंचाई तंत्र का उपयोग करता है?

- Ans
- 1. सिक्किम
 - 2. मेघालय
 - 3. असम
 - 4. त्रिपुरा

Question ID : 26433087890

Status : Not Answered

Chosen Option : --

Q.10 निम्नलिखित में से किसके अभाव के कारण कमजोर अस्थियाँ और दंतक्षय होता है?

- Ans
- 1. आयोडिन
 - 2. कैल्शियम
 - 3. लोह
 - 4. विटामिन A

Question ID : 264330115217

Status : Answered

Chosen Option : 2

Q.11 राष्ट्रीय महिला आयोग की स्थापना जनवरी _____ में सांविधिक निकाय के रूप में की गई थी।

- Ans
- 1. 1992
 - 2. 1999
 - 3. 1989
 - 4. 1995

Question ID : 264330116043

Status : Not Answered

Chosen Option : --

Q.12 कुसुकुंतला प्रभाकर रेड्डी, नवंबर 2022 में तेलंगाना में _____ निर्वाचन क्षेत्र से विधान सभा के सदस्य बने।

- Ans
- 1. वारंगल
 - 2. मुनुगोडे
 - 3. सिकंदराबाद
 - 4. हैदराबाद

Question ID : 264330114968

Status : Not Answered

Chosen Option : --

Q.13 विश्व में हरित क्रांति के जनक नॉर्मन बोरलॉग, (राष्ट्रीयता की दृष्टि से) _____ थे।

- Ans
- 1. भारतीय
 - 2. चीनी
 - 3. स्पेनिश
 - 4. अमेरिकी

Question ID : 264330115430
Status : Answered
Chosen Option : 1

Q.14 उस तत्व की पहचान कीजिए जो उपधातु नहीं है।

- Ans
- 1. टेल्यूरियम
 - 2. जर्मेनियम
 - 3. पोलोनियम
 - 4. ज़ेनॉन

Question ID : 26433086745
Status : Answered
Chosen Option : 2

Q.15 'फूलदेई', जोकि एक फसल उत्सव है, मुख्य रूप से भारत के निम्नलिखित में से किस राज्य में मनाया जाता है?

- Ans
- 1. गुजरात
 - 2. मेघालय
 - 3. उत्तराखंड
 - 4. आंध्र प्रदेश

Question ID : 26433094892
Status : Answered
Chosen Option : 2

Q.16 विश्व प्रसिद्ध नृत्यांगना गुलाबो सपेरा को निम्नलिखित में से किस नृत्य शैली के लिए जाना जाता है?

- Ans
- 1. कालबेलिया
 - 2. चकरी
 - 3. भवाई
 - 4. घूमर

Question ID : 26433071454
Status : Not Answered
Chosen Option : --

Q.17 भारतीय संविधान का निम्नलिखित में से कौन सा अनुच्छेद, शोषण के विरुद्ध अधिकार से संबंधित है?

- Ans
- 1. अनुच्छेद 27 - 28
 - 2. अनुच्छेद 23 - 24
 - 3. अनुच्छेद 33 - 34
 - 4. अनुच्छेद 37 - 38

Question ID : 26433086805

Status : Answered

Chosen Option : 2

Q.18 निम्नलिखित में से कौन, तब अध्यादेश जारी कर सकता है जब राज्य विधानमंडल सत्र में न हो और वह संतुष्ट हों कि तत्काल कार्रवाई की आवश्यकता है?

- Ans
- 1. विधानसभा अध्यक्ष
 - 2. राज्यपाल
 - 3. राष्ट्रपति
 - 4. मुख्यमंत्री

Question ID : 26433086827

Status : Answered

Chosen Option : 2

Q.19 निम्नलिखित में से किस देश में आई.सी.सी. (ICC) U19 क्रिकेट विश्व कप 2022 का आयोजन किया गया था?

- Ans
- 1. दक्षिण अफ्रीका
 - 2. वेस्ट इंडीज
 - 3. न्यूजीलैंड
 - 4. बांग्लादेश

Question ID : 26433086731

Status : Answered

Chosen Option : 4

Q.20 असम सरकार की ओर से सर्वश्रेष्ठ नृत्य निर्देशक के पुरस्कार से किसे सम्मानित किया गया?

- Ans
- 1. कृष्णा एला
 - 2. जतिन गोस्वामी
 - 3. अमाला अक्किनेनी
 - 4. अनुराधा पाण्डेय

Question ID : 264330115834

Status : Not Answered

Chosen Option : --

Q.1 यदि $\frac{2a+b}{a+4b} = 1$ है तो $\frac{a+b}{a-b}$ का मान क्या है?

- Ans
- 1. 4
 - 2. 1
 - 3. 2
 - 4. 3

Question ID : 26433079870
Status : Answered
Chosen Option : 3

Q.2 एक बल्लेबाज ने जब अपनी 13वीं पारी में 85 रन बनाए, तो उसके औसत में पाँच रन बढ़ गए। 13वीं पारी के बाद में, उसके औसत रन ज्ञात कीजिए।

- Ans
- 1. 23
 - 2. 20
 - 3. 25
 - 4. 26

Question ID : 26433080153
Status : Answered
Chosen Option : 3

Q.3 यदि 18 श्रमिक एक सड़क को 15 घंटे में बना सकते हैं, तो उसी सड़क को 9 घंटे में बनाने के लिए कितने और श्रमिकों की आवश्यकता होगी?

- Ans
- 1. 12
 - 2. 30
 - 3. 15
 - 4. 18

Question ID : 26433075915
Status : Answered
Chosen Option : 1

Q.4 2700 m की एक वृत्ताकार दौड़ में, P और Q बिंदु A से विपरीत दिशाओं में क्रमशः 23 km/h और 49 km/h की चाल से दौड़ना प्रारंभ करते हैं। वे कितने समय बाद पहली बार मिलेंगे?

- Ans
- 1. 135 sec
 - 2. 145 sec
 - 3. 130 sec
 - 4. 140 sec

Question ID : 26433074462
Status : Answered
Chosen Option : 1

Q.5 2 वर्षों में ₹22,500 का वार्षिक चक्रवृद्धि आधार पर गणना करने पर चक्रवृद्धि ब्याज कितना होगा, यदि ब्याज दर पहले वर्ष के लिए 5% और दूसरे वर्ष के लिए 8% हो?

- Ans
- 1. ₹3,015
 - 2. ₹3,115
 - 3. ₹3,215
 - 4. ₹3,315

Question ID : 26433080191

Status : Answered

Chosen Option : 1

Q.6 कोई चोर एक पुलिसकर्मी द्वारा 150 m की दूरी पर देखा जाता है। चोर भागना शुरू करता है और पुलिसकर्मी उसका पीछा करता है। चोर और पुलिसकर्मी क्रमशः 11 km/h और 12 km/h की चाल से दौड़ते हैं। 6 मिनट के बाद उनके बीच की दूरी ज्ञात कीजिए।

- Ans
- 1. 50 m
 - 2. 150 m
 - 3. 100 m
 - 4. 200 m

Question ID : 26433073038

Status : Answered

Chosen Option : 1

Q.7 15 परीक्षाफलों का औसत 60 है। यदि प्रथम आठ परीक्षाफलों का औसत 58 है और अंतिम छः परीक्षाफलों का औसत 62 है, तो नौवें परीक्षाफल के अंक ज्ञात कीजिए।

- Ans
- 1. 60
 - 2. 64
 - 3. 62
 - 4. 63

Question ID : 26433080152

Status : Answered

Chosen Option : 2

Q.8 रवि ने दो बाइक ₹ 42,188 प्रत्येक में बेचीं। एक बाइक पर उसे 20% का लाभ हुआ जबकि दूसरी पर उसे 20% की हानि हुई। उसे कुल मिलाकर कितना प्रतिशत लाभ या हानि हुई है?

- Ans
- 1. 4% लाभ
 - 2. 10% लाभ
 - 3. 10% हानि
 - 4. 4% हानि

Question ID : 26433075545

Status : Answered

Chosen Option : 4

Q.9 एक बेलन के वक्रपृष्ठीय क्षेत्रफल में कितना परिवर्तन होगा, जब उसकी त्रिज्या दोगुनी और उसकी ऊँचाई आधी कर दी जाती है?

- Ans
- 1. दोगुना
 - 2. कोई परिवर्तन नहीं
 - 3. तिगुना
 - 4. चार गुना

Question ID : 26433073049

Status : Answered

Chosen Option : 2

Q.10 एक व्यापारी अपने माल को लागत मूल्य से 50 प्रतिशत अधिक पर अंकित करता है और 30 प्रतिशत की छूट देता है। उसका लाभ प्रतिशत क्या है?

- Ans
- 1. 10 प्रतिशत
 - 2. 6 प्रतिशत
 - 3. 5 प्रतिशत
 - 4. 8 प्रतिशत

Question ID : 264330116749

Status : Answered

Chosen Option : 3

Q.11 ऋषभ ने ₹252 में 3 टी-शर्ट के दाम पर कुछ टी-शर्ट खरीदी और उन्हें ₹200 में 5 टी-शर्ट के दाम पर बेच दिया। उसका लाभ या हानि प्रतिशत ज्ञात कीजिए।

- Ans
- 1. 72.5% हानि
 - 2. 52.4% हानि
 - 3. 83.2% लाभ
 - 4. 62.5% लाभ

Question ID : 26433080014

Status : Answered

Chosen Option : 2

Q.12 ₹4,800 के 25 प्रतिशत के 15 प्रतिशत का 10 प्रतिशत कितना होता है?

- Ans
- 1. ₹18
 - 2. ₹24
 - 3. ₹16
 - 4. ₹21

Question ID : 26433079850

Status : Answered

Chosen Option : 1

Q.13 30% पुरुष 25 वर्ष से अधिक आयु के हैं, और 80% पुरुष 50 वर्ष से कम या उसके बराबर आयु के हैं। सभी पुरुषों में से 20% पुरुष फुटबॉल खेलते हैं। यदि 50 वर्ष से अधिक आयु के 20% पुरुष फुटबॉल खेलते हैं, तो कितने प्रतिशत फुटबॉल खिलाड़ी 50 वर्ष से कम या उसके बराबर आयु के हैं?

- Ans
- 1. 82%
 - 2. 77%
 - 3. 71%
 - 4. 80%

Question ID : 26433076324
Status : Answered
Chosen Option : 4

Q.14 A और B मिलकर एक कार्य को 26 दिनों में पूरा कर सकते हैं। A अकेले इसे 52 दिनों में पूरा कर सकता है। यदि B 50% क्षमता पर कार्य करता है, तो A और B मिलकर कार्य को कितने दिनों में पूरा करेंगे?

- Ans
- 1. 58/3 दिन
 - 2. 67/3 दिन
 - 3. 107/3 दिन
 - 4. 104/3 दिन

Question ID : 264330116864
Status : Answered
Chosen Option : 4

Q.15 एक कार खरीदने के लिए 2 वर्ष बाद ₹8,00,000 की राशि की आवश्यकता है। एक बैंक में जमा की गई राशि पर 8% वार्षिक का ब्याज मिलता है। आवश्यकता को पूरा करने के लिए बैंक में वर्तमान में लगभग कितनी राशि जमा करनी चाहिए; यदि ब्याज वार्षिक रूप से चक्रवृद्धि किया जाता है?

- Ans
- 1. ₹6,44,457
 - 2. ₹6,85,871
 - 3. ₹5,66,647
 - 4. ₹4,55,567

Question ID : 26433081723
Status : Answered
Chosen Option : 2

Q.16 6 और 110 का लघुत्तम समापवर्त्य क्या है?

- Ans
- 1. 330
 - 2. 440
 - 3. 660
 - 4. 300

Question ID : 26433082493
Status : Answered
Chosen Option : 1

Q.17 निम्नलिखित का मान ज्ञात कीजिए।
 $75 - 50 \div 5 \text{ of } 2 + 36 \div 6 \text{ of } 4 \times 2 (18 - 5 \text{ of } 2)$

- Ans 1. 94
 2. 97
 3. 98
 4. 96

Question ID : 26433080146
Status : Answered
Chosen Option : 1

Q.18 20 आदमी 6 दिन में ₹520 अर्जित कर सकते हैं। 18 आदमी 10 दिन में कितना धन अर्जित करेंगे?

- Ans 1. ₹660
 2. ₹780
 3. ₹740
 4. ₹620

Question ID : 26433080134
Status : Answered
Chosen Option : 2

Q.19 '5 खरीदें 3 मुफ्त पाएं' पर छूट का प्रतिशत कितना है?

- Ans 1. 36.5%
 2. 37.5%
 3. 35.5%
 4. 39.25%

Question ID : 26433075729
Status : Answered
Chosen Option : 2

Q.20 21 cm व्यास वाले एक गोले का पृष्ठीय क्षेत्रफल (cm² में) क्या होगा?

- Ans 1. 2772
 2. 1386
 3. 3465
 4. 5544

Question ID : 26433081074
Status : Answered
Chosen Option : 4

Q.1 Select the most appropriate option to fill in the blank.

The patient suffered an epileptic _____.

- Ans
- 1. sizar
 - 2. caesar
 - 3. seizure
 - 4. scissors

Question ID : 26433087941
Status : Answered
Chosen Option : 2

Q.2 The following sentence has been divided into parts. One of them may contain an error. Select the part that contains the error from the given options.

My friend Ragini /shall completed/ her task/ by then.

- Ans
- 1. her task
 - 2. My friend Ragini
 - 3. shall completed
 - 4. by then

Question ID : 26433089825
Status : Answered
Chosen Option : 3

Q.3 Select the option with the correct spelling of the underlined word in the given sentence.

In order to find the anamoly, scientists had to repeat the experiment over a hundred times.

- Ans
- 1. anomaly
 - 2. anemoly
 - 3. anomaly
 - 4. anomally

Question ID : 26433073607
Status : Answered
Chosen Option : 3

Q.4 Select the most appropriate ANTONYM of the given word.

Sublime

- Ans
- 1. Apparent
 - 2. Singular
 - 3. Ordinary
 - 4. Equal

Question ID : 26433071984
Status : Not Answered
Chosen Option : --

Q.5 Select the most appropriate synonym of the given word.

Dodge

- Ans
- 1. Determine
 - 2. Advice
 - 3. Announce
 - 4. Cheat

Question ID : 26433088490
Status : Answered
Chosen Option : 1

Q.6 Select the most appropriate option to substitute the underlined segment in the given sentence.

We hope these measure will take us further to a good position.

- Ans
- 1. hopes these measures will take us
 - 2. hope these measures will taking
 - 3. hope those measure will take us
 - 4. hope these measures will take us

Question ID : 26433093018
Status : Answered
Chosen Option : 4

Q.7 Select the most appropriate synonym of the underlined word.

There was palpable tension in the negotiation room.

- Ans
- 1. detectable
 - 2. indistinguishable
 - 3. imperceptible
 - 4. insensible

Question ID : 26433088838
Status : Answered
Chosen Option : 4

Q.8 Select the most appropriate meaning of the underlined idiom that can be substituted in the following sentence.

She knows Spanish after a fashion.

- Ans
- 1. in a fashionable way
 - 2. only after the fashion is done
 - 3. in a certain fashion
 - 4. to only a certain extent

Question ID : 26433072233
Status : Answered
Chosen Option : 1

Q.9 In the given sentence, a word is given in brackets. Select the most appropriate ANTONYM of the word to fill in the blank.
The boss wanted complete information. He asked about every _____ (huge) detail.

- Ans
- 1. significant
 - 2. solid
 - 3. mighty
 - 4. minute

Question ID : 26433058368
Status : Answered
Chosen Option : 4

Q.10 Select the most appropriate option to substitute the underlined segment in the given sentence to make it a meaningful sentence. If no substitution is required, select 'No substitution'.

Patients who do previous heart attacks and those with cardiac failure are at a higher risk of having a cardiac arrest.

- Ans
- 1. who have had previous heart attacks and those of cardiac failure are at a higher risk of having
 - 2. who have had previous heart attack and they with cardiac failure are at a higher risk of having
 - 3. who have had previous heart attacks and those with cardiac failure are at a higher risk of having
 - 4. No substitution

Question ID : 26433092047
Status : Answered
Chosen Option : 1

Q.11 Select the most appropriate option to fill in the blank.

He is determined to _____ any kind of task to prove his talent.

- Ans
- 1. undertake
 - 2. avoid
 - 3. entrust
 - 4. escape

Question ID : 26433074068
Status : Answered
Chosen Option : 1

Q.12 Select the INCORRECTLY spelt word.

- Ans
- 1. Fractural
 - 2. Historigraphy
 - 3. Antagonistic
 - 4. Periphery

Question ID : 26433073656
Status : Answered
Chosen Option : 1

Q.13 Fill in the blanks with the correct homophone.

I _____ some essential items from the supermarket.

- Ans
- 1. boat
 - 2. bot
 - 3. bought
 - 4. bout

Question ID : 26433089750
Status : Answered
Chosen Option : 3

Q.14 Select the most appropriate meaning of the given idiom.

A herculean task

- Ans
- 1. A simple work
 - 2. A machine work
 - 3. A tough job
 - 4. An important work

Question ID : 26433072814
Status : Answered
Chosen Option : 3

Q.15 Select the correct option to substitute the underlined segment in the given sentence. If no substitution is required, select 'No substitution'.

The patient had died before the doctor came.

- Ans
- 1. is dead
 - 2. No substitution
 - 3. will be dead
 - 4. died

Question ID : 26433090807
Status : Answered
Chosen Option : 2

Comprehension:

In the following passage, some words have been deleted. Read the passage carefully and select the most appropriate option to fill in each blank.

I looked out (1) _____ the city. The sun hung low in the sky, shining weakly (2) _____ the clouds, casting long shadows on the grass. I realised that it would be (3) _____ soon. The sun would set, finally, the (4) _____ would rise in the sky. Another day (5) _____ end. Another day lost.

SubQuestion No : 16

Q.16 Select the most appropriate option to fill in blank number 1.

- Ans 1. outside
 2. across
 3. inside
 4. under

Question ID : 26433092835

Status : Answered

Chosen Option : 2

Comprehension:

In the following passage, some words have been deleted. Read the passage carefully and select the most appropriate option to fill in each blank.

I looked out (1) _____ the city. The sun hung low in the sky, shining weakly (2) _____ the clouds, casting long shadows on the grass. I realised that it would be (3) _____ soon. The sun would set, finally, the (4) _____ would rise in the sky. Another day (5) _____ end. Another day lost.

SubQuestion No : 17

Q.17 Select the most appropriate option to fill in blank number 2.

- Ans 1. into
 2. though
 3. through
 4. upon

Question ID : 26433092836

Status : Answered

Chosen Option : 1

Comprehension:

In the following passage, some words have been deleted. Read the passage carefully and select the most appropriate option to fill in each blank.

I looked out (1) _____ the city. The sun hung low in the sky, shining weakly (2) _____ the clouds, casting long shadows on the grass. I realised that it would be (3) _____ soon. The sun would set, finally, the (4) _____ would rise in the sky. Another day (5) _____ end. Another day lost.

SubQuestion No : 18

Q.18 Select the most appropriate option to fill in blank number 3.

- Ans 1. bright
 2. light
 3. colourful
 4. dark

Question ID : 26433092837

Status : Answered

Chosen Option : 4

Comprehension:

In the following passage, some words have been deleted. Read the passage carefully and select the most appropriate option to fill in each blank.

I looked out (1) _____ the city. The sun hung low in the sky, shining weakly (2) _____ the clouds, casting long shadows on the grass. I realised that it would be (3) _____ soon. The sun would set, finally, the (4) _____ would rise in the sky. Another day (5) _____ end. Another day lost.

SubQuestion No : 19

Q.19 Select the most appropriate option to fill in blank number 4.

- Ans 1. stars
 2. planets
 3. moon
 4. sun

Question ID : 26433092838

Status : Answered

Chosen Option : 3

Comprehension:

In the following passage, some words have been deleted. Read the passage carefully and select the most appropriate option to fill in each blank.

I looked out (1) _____ the city. The sun hung low in the sky, shining weakly (2) _____ the clouds, casting long shadows on the grass. I realised that it would be (3) _____ soon. The sun would set, finally, the (4) _____ would rise in the sky. Another day (5) _____ end. Another day lost.

SubQuestion No : 20

Q.20 Select the most appropriate option to fill in blank number 5.

- Ans 1. would
 2. cannot
 3. will
 4. should

Question ID : 26433092839

Status : Answered

Chosen Option : 1

Section : Part-D-Hindi

Q.1 निम्नलिखित वाक्यांश के लिए एक सार्थक शब्द चुनिए।
ऐसी बात जो लोग परंपरा से सुनते आये हों

- Ans 1. स्मरणीय
 2. शैव
 3. अनुसूया
 4. किंवदंती

Question ID : 26433062738

Status : Not Answered

Chosen Option : --

Q.2 'पूरब और उत्तर के बीच की दिशा' वाक्यांश के लिए उचित शब्द बताइए -

- Ans 1. पूर्व
 2. ईशान
 3. पश्चिम
 4. वायव्य

Question ID : 26433065915

Status : Not Answered

Chosen Option : --

Q.3 निम्नलिखित विकल्पों में से कौन सा एक वाक्य संकेतवाचक सर्वनाम का नहीं है?

- Ans
- 1. वह भिखारी हमेशा मन्दिर के सामने बैठता है।
 - 2. वे पुरानी फाइलें हैं।
 - 3. राम का घर कौन सा है?
 - 4. यह लड़का हमारे विद्यालय का चपरासी नीरज है।

Question ID : 26433062978

Status : Not Answered

Chosen Option : --

Q.4 निम्नलिखित में से किस एक वाक्य में सर्वनाम के प्रयोग सम्बन्धी अशुद्धि है?

- Ans
- 1. मैं आपके केबिन में बैठा था।
 - 2. सभी छात्र अपने-अपने घर जाएं।
 - 3. सबकी अपनी-अपनी मजबूरियां थीं।
 - 4. जो लोग अन्दर आना चाहते हैं, वह आ सकते हैं।

Question ID : 26433062974

Status : Not Answered

Chosen Option : --

Q.5 निम्नलिखित शब्द का सही पर्यायवाची शब्द विकल्पों में से चुनिए।
नदी

- Ans
- 1. तरंगिणी
 - 2. सरोज
 - 3. हिमनद
 - 4. चपला

Question ID : 26433066939

Status : Not Answered

Chosen Option : --

Q.6 निम्न मुहावरे को किस विकल्प द्वारा पूर्ण किया जा सकता है?
'गागर में _____'

- Ans
- 1. सागर भरना
 - 2. पैसा भरना
 - 3. पानी भरना
 - 4. दूध भरना

Question ID : 26433066812

Status : Not Answered

Chosen Option : --

Q.7 नीचे दिए गए वाक्य में रेखांकित अंश के स्थान पर सबसे उपयुक्त विकल्प कौन-सा होगा?
वह धीमी स्वर में बोला।

- Ans
- 1. धीमे
 - 2. धीमों
 - 3. करुण
 - 4. गुस्से

Question ID : 26433066719
Status : Not Answered
Chosen Option : --

Q.8 “राहुल के स्वभाव में क्रोध का भाव अधिक है।”
उक्त वाक्य में प्रयुक्त ‘क्रोध’ के स्थान पर उसके विलोम शब्द का प्रयोग निम्न में से किस वाक्य में किया गया है?

- Ans
- 1. राहुल के स्वभाव में घृणा का भाव अधिक है।
 - 2. राहुल के स्वभाव में क्षमा का भाव अधिक है।
 - 3. राहुल के स्वभाव में ईर्ष्या का भाव अधिक है।
 - 4. राहुल के स्वभाव में दया का भाव अधिक है।

Question ID : 26433067020
Status : Not Answered
Chosen Option : --

Q.9 'यह रास्ता _____ है, सावधानी से चलें।'
उपरोक्त वाक्य में रिक्त स्थान की पूर्ति शुद्ध वर्तनी वाले सही शब्द द्वारा कीजिए।

- Ans
- 1. दुर्गम
 - 2. दुग्रम
 - 3. दुरगम
 - 4. दुगर्म

Question ID : 26433080904
Status : Not Answered
Chosen Option : --

Q.10 निम्न वाक्य में रेखांकित शब्द को विकल्पों में दिए गए किस शब्द से बदला जा सकता है, जिससे वाक्य के अर्थ में कोई परिवर्तन न हो?
प्रतिदिन रियाज़ करने के कारण वह प्रवीण हो गया।

- Ans
- 1. कसरत
 - 2. अभ्यास
 - 3. उपासना
 - 4. आसन

Question ID : 26433084961
Status : Not Answered
Chosen Option : --

Q.11 निम्नलिखित में से किस वाक्य में 'निर्माण' के विलोम शब्द का प्रयोग हुआ है?

- Ans
- 1. प्रकाश हमेशा तिमिर का नाश करता है।
 - 2. हमारे सामने वाला मकान जर्जर अवस्था में है।
 - 3. उत्तर भारत का मैदान एक समतल भूमि है।
 - 4. तरुण भारत संघ भारत का गैर सरकारी संगठन है।

Question ID : 26433091174

Status : Not Answered

Chosen Option : --

Q.12 निम्नलिखित वाक्य में से अशुद्धि पहचानें-
तलवार एक अच्छा अस्त है।

- Ans
- 1. अस्त
 - 2. तलवार
 - 3. अच्छा
 - 4. एक

Question ID : 26433066828

Status : Not Answered

Chosen Option : --

Q.13 निम्न में से किस वाक्य में 'खिन्न' के सही पर्यायवाची शब्द का प्रयोग हुआ है?

- Ans
- 1. रंजन उसके प्रति अनासक्त था।
 - 2. राजीव आज बेहद प्रसन्न था।
 - 3. सुनैना ने मुक्त कंठ से उसकी प्रशंसा की।
 - 4. जया का मन उदास हो गया।

Question ID : 26433067014

Status : Not Answered

Chosen Option : --

Q.14 'जिसके दो पद (पैर) हैं' वाक्यांश के लिए सार्थक शब्द क्या होगा?

- Ans
- 1. द्विज
 - 2. द्वापर
 - 3. चतुष्पद
 - 4. द्विपद

Question ID : 26433065859

Status : Not Answered

Chosen Option : --

Q.15 नीचे दिए मुहावरे का सही अर्थ दिए गए विकल्पों में से चुनिए-
लँगोटी में फाग खेलना

- Ans
- 1. होली खेलना
 - 2. दरिद्रता में आनंद लूटना
 - 3. लँगोट पहनना
 - 4. बचपन से होली के गीत गाना

Question ID : 26433062314

Status : Not Answered

Chosen Option : --

Comprehension:

दिए गए गद्यांश में से कुछ शब्दों को हटा दिया गया है। गद्यांश के आधार पर पूछे गए प्रश्नों में उन रिक्त स्थानों के लिए सर्वाधिक उपयुक्त शब्दों का चयन विकल्पों में से कीजिए।

भारतवर्ष ने कभी भी भौतिक वस्तुओं के (1). _____ को बहुत अधिक महत्त्व नहीं दिया है। उसकी दृष्टि से मनुष्य के भीतर जो महान (2). _____ गुण स्थिर भाव से बैठा हुआ है, वही चरम और परम है। लोभ-मोह, काम-क्रोध आदि विचार मनुष्य में (3). _____ रूप से विद्यमान रहते हैं, पर उन्हें प्रधान शक्ति मान लेना और अपने मन तथा बुद्धि को उन्हीं के इशारे पर छोड़ देना बहुत बुरा (4). _____ है। भारतवर्ष ने कभी भी उन्हें उचित नहीं माना, उन्हें सदा (5). _____ के बंधन से बांधकर रखने का प्रयत्न किया है।

SubQuestion No : 16

Q.16 दिए गए शब्दों में से उचित शब्द चुनकर रिक्त स्थान (1) की पूर्ति कीजिए।

- Ans
- 1. संग्रह
 - 2. विग्रह
 - 3. लाभ
 - 4. प्रयोग

Question ID : 26433090343

Status : Not Answered

Chosen Option : --

Comprehension:

दिए गए गद्यांश में से कुछ शब्दों को हटा दिया गया है। गद्यांश के आधार पर पूछे गए प्रश्नों में उन रिक्त स्थानों के लिए सर्वाधिक उपयुक्त शब्दों का चयन विकल्पों में से कीजिए।

भारतवर्ष ने कभी भी भौतिक वस्तुओं के (1). _____ को बहुत अधिक महत्त्व नहीं दिया है। उसकी दृष्टि से मनुष्य के भीतर जो महान (2). _____ गुण स्थिर भाव से बैठा हुआ है, वही चरम और परम है। लोभ-मोह, काम-क्रोध आदि विचार मनुष्य में (3). _____ रूप से विद्यमान रहते हैं, पर उन्हें प्रधान शक्ति मान लेना और अपने मन तथा बुद्धि को उन्हीं के इशारे पर छोड़ देना बहुत बुरा (4). _____ है। भारतवर्ष ने कभी भी उन्हें उचित नहीं माना, उन्हें सदा (5). _____ के बंधन से बांधकर रखने का प्रयत्न किया है।

SubQuestion No : 17

Q.17 दिए गए शब्दों में से उचित शब्द चुनकर रिक्त स्थान (2) की पूर्ति कीजिए।

- Ans
- 1. महत्त्वपूर्ण
 - 2. बाह्य
 - 3. आंतरिक
 - 4. विशेष

Question ID : 26433090344

Status : Not Answered

Chosen Option : --

Comprehension:

दिए गए गद्यांश में से कुछ शब्दों को हटा दिया गया है। गद्यांश के आधार पर पूछे गए प्रश्नों में उन रिक्त स्थानों के लिए सर्वाधिक उपयुक्त शब्दों का चयन विकल्पों में से कीजिए।
भारतवर्ष ने कभी भी भौतिक वस्तुओं के (1). _____ को बहुत अधिक महत्त्व नहीं दिया है। उसकी दृष्टि से मनुष्य के भीतर जो महान (2). _____ गुण स्थिर भाव से बैठा हुआ है, वही चरम और परम है। लोभ-मोह, काम-क्रोध आदि विचार मनुष्य में (3). _____ रूप से विद्यमान रहते हैं, पर उन्हें प्रधान शक्ति मान लेना और अपने मन तथा बुद्धि को उन्हीं के इशारे पर छोड़ देना बहुत बुरा (4). _____ है। भारतवर्ष ने कभी भी उन्हें उचित नहीं माना, उन्हें सदा (5). _____ के बंधन से बांधकर रखने का प्रयत्न किया है।

SubQuestion No : 18

Q.18 दिए गए शब्दों में से उचित शब्द चुनकर रिक्त स्थान (3) की पूर्ति कीजिए।

- Ans
- 1. अनिवार्य
 - 2. स्वाभाविक
 - 3. ऐच्छिक
 - 4. विशेष

Question ID : 26433090345

Status : Not Answered

Chosen Option : --

Comprehension:

दिए गए गद्यांश में से कुछ शब्दों को हटा दिया गया है। गद्यांश के आधार पर पूछे गए प्रश्नों में उन रिक्त स्थानों के लिए सर्वाधिक उपयुक्त शब्दों का चयन विकल्पों में से कीजिए।
भारतवर्ष ने कभी भी भौतिक वस्तुओं के (1). _____ को बहुत अधिक महत्त्व नहीं दिया है। उसकी दृष्टि से मनुष्य के भीतर जो महान (2). _____ गुण स्थिर भाव से बैठा हुआ है, वही चरम और परम है। लोभ-मोह, काम-क्रोध आदि विचार मनुष्य में (3). _____ रूप से विद्यमान रहते हैं, पर उन्हें प्रधान शक्ति मान लेना और अपने मन तथा बुद्धि को उन्हीं के इशारे पर छोड़ देना बहुत बुरा (4). _____ है। भारतवर्ष ने कभी भी उन्हें उचित नहीं माना, उन्हें सदा (5). _____ के बंधन से बांधकर रखने का प्रयत्न किया है।

SubQuestion No : 19

Q.19 दिए गए शब्दों में से उचित शब्द चुनकर रिक्त स्थान (4) की पूर्ति कीजिए।

- Ans
- 1. प्रणाली
 - 2. कार्य
 - 3. तरीका
 - 4. आचरण

Question ID : 26433090346

Status : Not Answered

Chosen Option : --

Comprehension:

दिए गए गद्यांश में से कुछ शब्दों को हटा दिया गया है। गद्यांश के आधार पर पूछे गए प्रश्नों में उन रिक्त स्थानों के लिए सर्वाधिक उपयुक्त शब्दों का चयन विकल्पों में से कीजिए।

भारतवर्ष ने कभी भी भौतिक वस्तुओं के (1). _____ को बहुत अधिक महत्त्व नहीं दिया है। उसकी दृष्टि से मनुष्य के भीतर जो महान (2). _____ गुण स्थिर भाव से बैठा हुआ है, वही चरम और परम है। लोभ-मोह, काम-क्रोध आदि विचार मनुष्य में (3). _____ रूप से विद्यमान रहते हैं, पर उन्हें प्रधान शक्ति मान लेना और अपने मन तथा बुद्धि को उन्हीं के इशारे पर छोड़ देना बहुत बुरा (4). _____ है। भारतवर्ष ने कभी भी उन्हें उचित नहीं माना, उन्हें सदा (5). _____ के बंधन से बाँधकर रखने का प्रयत्न किया है।

SubQuestion No : 20

Q.20 दिए गए शब्दों में से उचित शब्द चुनकर रिक्त स्थान (5) की पूर्ति कीजिए।

- Ans 1. संयम
 2. मोह
 3. बेड़ियों
 4. रिश्तों

Question ID : 26433090347

Status : Not Answered

Chosen Option : --

KD Job Updates

Constable GD in CAPFs SSF Rifleman GD in Assam Rifles and Sepoy in NCB Examination 2022

Roll Number	KD Job Updates
Candidate Name	KD Job Updates
Venue Name	iON Digital Zone iDZ 1 Sector 62
Exam Date	16/01/2023
Exam Time	2:30 PM - 3:30 PM
Subject	Constable GD Examination 2022

Section : Part-A-General Intelligence and Reasoning

Q.1 निम्नलिखित में से कौन सा विकल्प दी गई श्रृंखला में प्रश्न चिह्न (?) को प्रतिस्थापित करेगा?
3, 8, 18, 38, ?, 158, 318

- Ans
- 1. 98
 - 2. 78
 - 3. 128
 - 4. 108

Question ID : 26433089439
Status : Answered
Chosen Option : 2

Q.2 आठ व्यक्ति - D, E, M, P, T, W, Y और Z एक सीधी पंक्ति में उत्तर की ओर मुख करके बैठे हैं। M पंक्ति के किसी एक सिरे पर बैठा है। M और E के बीच केवल दो व्यक्ति बैठे हैं। D, E के दाईं ओर तीसरे स्थान पर बैठा है। D और T के बीच केवल चार व्यक्ति बैठे हैं। Z, P के दाईं ओर ठीक बगल में बैठा है। W पंक्ति के किसी भी सिरे पर नहीं बैठा है। Y के दाईं ओर कितने व्यक्ति बैठे हैं?

- Ans
- 1. एक
 - 2. तीन
 - 3. कोई नहीं
 - 4. तीन से अधिक

Question ID : 26433092420
Status : Answered
Chosen Option : 3

Q.3 निम्नलिखित समीकरण को संतुलित करने के लिए उसमें किन दो संख्याओं (अंको को नहीं) और किन दो चिह्नों को परस्पर बदला जाना चाहिए?
 $19 \div 14 + 7 \times 2 \times 4 = 80$

- Ans
- 1. 14 और 2; + और ×
 - 2. 7 और 2; + और ×
 - 3. 4 और 19; + और ÷
 - 4. 19 और 14; + और ÷

Question ID : 26433082884
Status : Answered
Chosen Option : 3

Q.4 उस विकल्प का चयन करें, जो पाँचवीं संख्या से उसी प्रकार संबंधित है, जिस प्रकार दूसरी संख्या, पहली संख्या से संबंधित है और चौथी संख्या, तीसरी संख्या से संबंधित है।
9 : 11 :: 29 : 21 :: 37 : ?

- Ans
- 1. 24
 - 2. 22
 - 3. 26
 - 4. 25

Question ID : 26433069430

Status : Answered

Chosen Option : 4

Q.5 उस विकल्प का चयन कीजिए जो तीसरे शब्द से उसी प्रकार संबंधित है जिस प्रकार दूसरा शब्द पहले शब्द से संबंधित है। (शब्दों को अर्थपूर्ण शब्दों के रूप में मानना है और उन्हें शब्द में अक्षरों/व्यंजनों/स्वरों की संख्या के आधार पर एक-दूसरे से संबंधित नहीं करना है।)
लेखक : कलम :: बढ़ई : ?

- Ans
- 1. आरी
 - 2. लकड़ी
 - 3. फर्नीचर
 - 4. रेंच

Question ID : 26433067856

Status : Answered

Chosen Option : 1

KD Job Updates

Q.6 दर्पण को दाईं ओर रखे जाने पर, निम्नलिखित में से कौन-सी आकृति दी गई प्रश्न आकृति

का सटीक दर्पण प्रतिबिम्ब होगी?

प्रश्न आकृति:



Ans

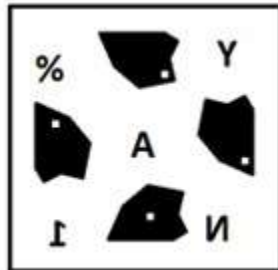
✗ 1.




✗ 2.



✗ 3.



✓ 4.



Question ID : 26433087091

Status : Answered

Chosen Option : 4

Q.7 किस विकल्प में निम्नलिखित शब्दों का वह क्रम दिया गया है, जिस क्रम में वे अंग्रेजी शब्दकोश में आते हैं?
1 jumping
2 juice
3 jumble
4 jupiter
5 junior

- Ans 1. 3,4,2,1,5
 2. 2,3,1,5,4
 3. 3,2,1,5,4
 4. 2,3,4,1,5

Question ID : 26433069303
Status : Answered
Chosen Option : 2

Q.8 कौन-सा अक्षर-समूह दी गई श्रृंखला में प्रश्नचिह्न (?) के स्थान पर आकर श्रृंखला को पूर्ण करेगा?
AFIN, EJMR, ?, MRUZ, QVYD

- Ans 1. JNRV
 2. JNQV
 3. INQV
 4. INRV

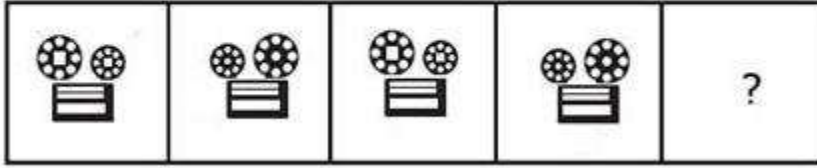
Question ID : 26433067944
Status : Answered
Chosen Option : 3

Q.9 'A + B' का अर्थ है 'A, B का भाई है'।
'A / B' का अर्थ है 'A, B की माँ है'।
'A ^ B' का अर्थ है 'A, B का पति है'।
'A % B' का अर्थ है 'A, B की बहन है'।
'A @ B' का अर्थ है 'A, B का बेटा है'।
यदि $U \wedge V / W + X \% Y$ है, तो U, Y से किस प्रकार संबंधित है?

- Ans 1. ताऊ/वाचा
 2. पिता
 3. बेटा
 4. भाई

Question ID : 26433087000
Status : Answered
Chosen Option : 2

Q.10 उस आकृति का चयन कीजिए, जो नीचे दी गई श्रृंखला में आगे आएगी।




Ans

✗ 1.



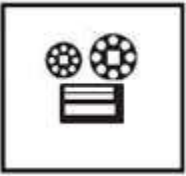
✗ 2.



✓ 3.



✗ 4.



Question ID : 26433078972

Status : Answered

Chosen Option : 3

Q.11 एक निश्चित कूट भाषा में 'DAINTY' को 'GCKQWB' लिखा जाता है और 'PROMISE' को 'SUQPKVG' लिखा जाता है। उसी भाषा में 'CERTAIN' को किस प्रकार लिखा जाएगा?

Ans ✗ 1. EHUVCLQ

✗ 2. GGTUYKP

✓ 3. FGUWCKQ

✗ 4. EHTVDLP

Question ID : 26433081763

Status : Answered

Chosen Option : 3

Q.12 दिए गए विकल्पों में से उस अक्षर-समूह का चयन कीजिए जो निम्न श्रृंखला में प्रश्न-चिह्न (?) के स्थान पर आ सकता है।
OL, VE, CX, JQ, ?

Ans 1. PK

2. QJ

3. QK

4. PJ

Question ID : 26433079038

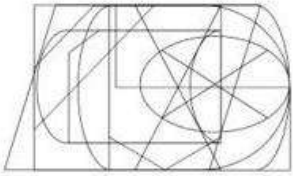
Status : Answered

Chosen Option : 1

KD Job Updates

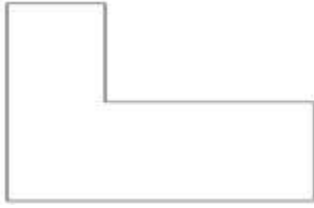
Q.13

उस विकल्प आकृति का चयन करें जो नीचे दी गई आकृति में अंतर्निहित है। (आकृति घुमाने की अनुमति नहीं है)




Ans

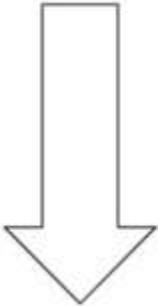
✓ 1.




✗ 2.



✗ 3.



✗ 4.



KD Job Updates

Question ID : 26433085740

Status : Answered

Chosen Option : 1

Q.14 दिए गए विकल्पों में से वह संख्या चुनिए, जो निम्नलिखित श्रृंखला में प्रश्न-चिह्न (?) को प्रतिस्थापित कर सके।
113, 114, 110, 119, 103, 128, ?

Ans 1. 92

2. 89

3. 98

4. 97

Question ID : 26433078917

Status : Answered

Chosen Option : 1

Q.15 निम्नलिखित में से उस विकल्प का चयन कीजिए, जो पाँचवें अक्षर-समूह से उसी प्रकार से संबंधित है, जिस प्रकार दूसरा अक्षर-समूह पहले अक्षर-समूह से और चौथा अक्षर-समूह तीसरे अक्षर-समूह से संबंधित है।

ZINCKY : XGLAIW :: ZIGZAG : XGEXYE :: JOCKEY : ?

Ans 1. HSIAJX

2. HMAICW

3. XJASIH

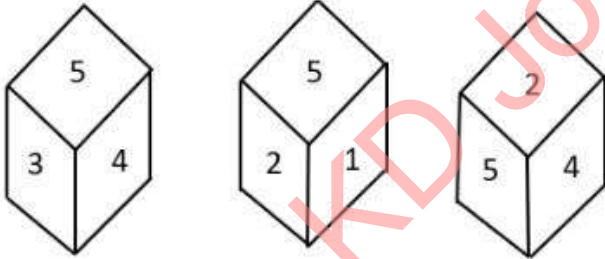
4. HISAJX

Question ID : 26433083108

Status : Answered

Chosen Option : 2

Q.16 एक ही पासे की तीन अलग-अलग स्थितियों को दर्शाया गया है। '5' दर्शाने वाले फलक के विपरीत फलक की संख्या ज्ञात कीजिए।



Ans 1. 6

2. 3

3. 2

4. 4

Question ID : 26433090073

Status : Answered

Chosen Option : 1

Q.17 तीन कथन दिए गए हैं, जिनके बाद तीन निष्कर्ष I, II और III दिए गए हैं। कथनों को सत्य मानते हुए, भले ही वे सामान्य रूप से ज्ञात तथ्यों से भिन्न प्रतीत होते हों, निर्धारित करें कि कौन-सा/से निष्कर्ष कथनों का तार्किक रूप से अनुसरण करता है/करते हैं।

कथन:

सभी पक्षी गाय हैं।
कुछ गाय मुर्गियां हैं।
कुछ कुत्ते पक्षी हैं।

निष्कर्ष:

- I. कुछ कुत्ते मुर्गियां हैं।
- II. कोई मुर्गी पक्षी नहीं है।
- III. कुछ गाय कुत्ते हैं।

- Ans
- 1. केवल निष्कर्ष III अनुसरण करता है
 - 2. केवल निष्कर्ष I और II अनुसरण करते हैं
 - 3. सभी निष्कर्ष अनुसरण करते हैं
 - 4. केवल निष्कर्ष II और III अनुसरण करते हैं

Question ID : 26433090990

Status : Answered

Chosen Option : 1

Q.18 नीचे दिए गए समीकरण को गणितीय रूप से सही बनाने के लिए किन दो चिन्हों को परस्पर बदलना चाहिए?

$$36 + 27 - 75 \times 5 \div 25 = 24$$

- Ans
- 1. + और ÷
 - 2. ÷ और -
 - 3. ÷ और ×
 - 4. - और +

Question ID : 264330117557

Status : Answered

Chosen Option : 4

Q.19 सात व्यक्ति K, L, M, N, O, P और Q एक सीधी पंक्ति में उत्तर की ओर मुख करके बैठे हैं। P के बाईं ओर केवल चार व्यक्ति बैठे हैं। Q, N के बाईं ओर तीसरे स्थान पर बैठा है। N, P के ठीक बगल में नहीं बैठा है। M, L के बाईं ओर तीसरे स्थान पर बैठा है। K, M के बाईं ओर ठीक बगल में बैठा है। पंक्ति के बाएं सिरे पर कौन बैठा है?

- Ans
- 1. M
 - 2. K
 - 3. O
 - 4. Q

Question ID : 26433076527

Status : Answered

Chosen Option : 3

Q.20 एक निश्चित कूट भाषा में, 'FLEET' को 'TFMFF' के रूप में लिखा जाता है, 'OUTLET' को 'TOVUMF' के रूप में लिखा जाता है, उसी भाषा में 'LABOUR' को कैसे लिखा जाएगा?

- Ans
- 1. RLBCPV
 - 2. RLABOU
 - 3. LRBCPV
 - 4. LRLABOU

Question ID : 26433069648
Status : Answered
Chosen Option : 1

Section : Part-B-General Knowledge and General awareness

Q.1 उपभोक्ता संरक्षण अधिनियम, 2019, 2019 में पारित किया गया था और _____ में लागू हुआ था।

- Ans
- 1. 2021
 - 2. 2019
 - 3. 2022
 - 4. 2020

Question ID : 264330116233
Status : Not Answered
Chosen Option : --

Q.2 एक बाज़ार संरचना पर विचार करें, जिसमें फार्मों की संख्या काफी अधिक होती है और फार्मों का निर्बाध प्रवेश और बहिर्गमन होता है, किन्तु उनके द्वारा उत्पादित वस्तु सजातीय नहीं होती हैं। ऐसी बाज़ार संरचना को _____ कहते हैं।

- Ans
- 1. एकाधिकार
 - 2. अल्पाधिकर
 - 3. एकाधिकारी प्रतिस्पर्धा
 - 4. क्रेता एकाधिकार

Question ID : 264330115344
Status : Answered
Chosen Option : 4

Q.3 किस राज्य/केंद्र शासित प्रदेश ने वर्ष 2014 में लुसोफोनिया खेलों की मेजबानी की थी?

- Ans
- 1. दिल्ली
 - 2. पांडिचेरी
 - 3. मध्य प्रदेश
 - 4. गोवा

Question ID : 264330115938
Status : Not Answered
Chosen Option : --

Q.4 सम्राट अशोक _____ के पुत्र थे।

- Ans
- 1. अजातशत्रु
 - 2. बिम्बिसार
 - 3. चंद्रगुप्त मौर्य
 - 4. बिन्दुसार

Question ID : 264330106589

Status : Answered

Chosen Option : 2

Q.5 निम्नलिखित में से किसे फूल्स गोल्ड (Fool's Gold) के रूप में जाना जाता है?

- Ans
- 1. FeS
 - 2. Fe₂S₃
 - 3. FeS₂
 - 4. FeS₃

Question ID : 26433066469

Status : Not Answered

Chosen Option : --

Q.6 निम्नलिखित में से कौन सा धोने का सोडा का रासायनिक सूत्र है?

- Ans
- 1. Na₂CO₃·H₂O
 - 2. Na₂CO₃·10H₂O
 - 3. Na₂CO₂
 - 4. NaCO₂·H₂O

Question ID : 264330115199

Status : Answered

Chosen Option : 2

Q.7 _____ में, जेम्स मिल, एक स्कॉटिश अर्थशास्त्री और राजनीतिक दार्शनिक, ने एक विशाल तीन-खंड का काम, ए हिस्ट्री ऑफ़ ब्रिटिश इंडिया प्रकाशित किया।

- Ans
- 1. 1817
 - 2. 1831
 - 3. 1819
 - 4. 1821

Question ID : 264330115708

Status : Not Answered

Chosen Option : --

Q.8 वे श्रमिक जो अपनी आजीविका कमाने के लिए एक उद्यम के मालिक हैं और उसका संचालन करते हैं, उन्हें _____ के रूप में जाना जाता है।

- Ans
- 1. स्वनियोजित (self-employed)
 - 2. कुशल श्रमिक (skill workers)
 - 3. आकस्मिक श्रमिक
 - 4. नियमित वेतनभोगी श्रमिक

Question ID : 264330116085
Status : Answered
Chosen Option : 1

Q.9 आगा खान गोल्ड कप निम्नलिखित में से किस खेल से संबंधित है?

- Ans
- 1. बास्केटबाल
 - 2. टेनिस
 - 3. हॉकी
 - 4. गोल्फ़

Question ID : 264330116304
Status : Answered
Chosen Option : 3

Q.10 विशाखापत्तनम _____ स्थल रुद्ध और अच्छी तरह से संरक्षित बंदरगाह है।

- Ans
- 1. गहरा
 - 2. सबसे लम्बा
 - 3. छिछला
 - 4. सबसे छोटा

Question ID : 264330115591
Status : Answered
Chosen Option : 1

Q.11 भारत की सातवीं पंचवर्षीय योजना की वास्तविक विकास दर क्या थी?

- Ans
- 1. 6 %
 - 2. 8 %
 - 3. 12 %
 - 4. 3 %

Question ID : 26433054630
Status : Not Answered
Chosen Option : --

Q.12 कानून का शासन किसी भी _____ की नींव है, जिसका अर्थ है कि कोई भी व्यक्ति कानून से ऊपर नहीं है।

- Ans
- 1. साम्यवाद
 - 2. एकतंत्र
 - 3. अधिनायकत्व
 - 4. लोकतंत्र

Question ID : 26433086801
Status : Answered
Chosen Option : 4

Q.13 किन दो देशों से मृत सागर की सीमा लगती है?

- Ans
- 1. इज़राइल और जॉर्डन
 - 2. सीरिया और जॉर्डन
 - 3. इज़राइल और ट्यूनीशिया
 - 4. जॉर्डन और तुर्की

Question ID : 264330116015
Status : Answered
Chosen Option : 1

Q.14 हम्पी उत्सव प्रति वर्ष निम्नलिखित में से किस राज्य में मनाया जाता है?

- Ans
- 1. कर्नाटक
 - 2. तमिल नाडु
 - 3. आंध्र प्रदेश
 - 4. केरल

Question ID : 264330115110
Status : Answered
Chosen Option : 1

Q.15 Sharodi Saikia is an Indian classical dancer known for _____ dance form.

- Ans
- 1. Sattriya
 - 2. Fusion
 - 3. Kuchipudi
 - 4. Manipuri

Question ID : 264330115887
Status : Not Answered
Chosen Option : --

Q.16 निम्नलिखित में से किस व्यक्ति को ओडिसी नृत्य में उनके योगदान के लिए वर्ष 2008 में पद्म श्री पुरस्कार मिला था?

- Ans
- 1. रामलाल बरेठ
 - 2. शंभू महाराज
 - 3. कालकाप्रसाद
 - 4. गंगाधर प्रधान

Question ID : 26433070808
Status : Not Answered
Chosen Option : --

Q.17 राज्य विधायिका के उच्च सदन को _____ के रूप में जाना जाता है।

- Ans
- 1. विधानसभा
 - 2. लोकसभा
 - 3. राज्यसभा
 - 4. विधान परिषद

Question ID : 26433086674
Status : Answered
Chosen Option : 4

Q.18 नवंबर 2022 तक की स्थिति के अनुसार, भारत में केंद्रीय स्वास्थ्य मंत्री कौन हैं?

- Ans
- 1. हरदीप सिंह पुरी
 - 2. नारायण राणे
 - 3. पुरुषोत्तम रूपाला
 - 4. मनसुख मंडाविया

Question ID : 264330114934
Status : Answered
Chosen Option : 4

Q.19 Prime Minister Narendra Modi inaugurated Arunachal Pradesh's first greenfield airport in which city?

- Ans
- 1. Khonsa
 - 2. Anini
 - 3. Dirang
 - 4. Hollongi

Question ID : 264330115047
Status : Answered
Chosen Option : 1

Q.20 निम्न में से मुख्यतः किस उद्योग में बॉक्साइट को कच्चे माल के रूप में उपयोग किया जाता है?

- Ans
- 1. इस्पात उद्योग
 - 2. जूट उद्योग
 - 3. सीमेंट उद्योग
 - 4. एल्युमीनियम उद्योग

Question ID : 264330115398

Status : Answered

Chosen Option : 4

Section : Part-C-Elementary Mathematics

Q.1 $6 + [(16 - 4) \div (2^2 + 2)] - 2$ को सरल कीजिए।

- Ans
- 1. 6
 - 2. 4
 - 3. 2
 - 4. 8

Question ID : 26433079766

Status : Answered

Chosen Option : 1

Q.2 एक हेयर ड्रायर का अंकित मूल्य Rs.10,550 है। दुकानदार इस पर 18% का डिस्काउंट (छूट) ऑफर करता है। इसका विक्रय मूल्य ज्ञात कीजिए।

- Ans
- 1. Rs.8,651
 - 2. Rs.7,652
 - 3. Rs.8,052
 - 4. Rs.8,453

Question ID : 26433075235

Status : Answered

Chosen Option : 1

Q.3 एक ही दिशा में 110 km/h और 90 km/h की चाल से चल रही दो ट्रेनें 54 सेकंड में एक दूसरे को पार कर जाती हैं। यदि पहली ट्रेन की लंबाई 130 मीटर हो, तो दूसरी ट्रेन की लंबाई ज्ञात कीजिए।

- Ans
- 1. 160 मीटर
 - 2. 180 मीटर
 - 3. 165 मीटर
 - 4. 170 मीटर

Question ID : 26433080195

Status : Answered

Chosen Option : 4

Q.4 मोहन और सोहन ने एक संपत्ति में क्रमशः Rs.3,000 और Rs.4,000 का निवेश किया और 6 महीने के बाद सोहन ने निवेश की गई अपनी राशि निकाल ली। यदि वर्ष के अंत में उनका लाभ Rs.540 है, तो मोहन द्वारा अर्जित लाभ कितना होगा?

- Ans
- 1. Rs.296
 - 2. Rs.344
 - 3. Rs.288
 - 4. Rs.324

Question ID : 26433075673

Status : Answered

Chosen Option : 4

Q.5 एक विश्वविद्यालय में इंजीनियरिंग, प्रबंधन और विज्ञान की सीटें 7 : 8 : 9 के अनुपात में हैं। इन सीटों में क्रमशः 20%, 30% और 60% की वृद्धि करने का प्रस्ताव है। बढ़ी हुई सीटों का अनुपात क्या होगा?

- Ans
- 1. 8 : 9 : 11
 - 2. 17 : 19 : 21
 - 3. 23 : 25 : 27
 - 4. 21 : 26 : 36

Question ID : 26433082367

Status : Answered

Chosen Option : 4

Q.6 एप्पल लैपटॉप का मूल्य 3 वर्ष में घटकर Rs.1,33,100 से Rs.72,900 हो गया। मूल्यहास की वार्षिक दर ज्ञात करें। (2 दशमलव स्थान तक सही।)

- Ans
- 1. 21.34%
 - 2. 25.32%
 - 3. 20.75%
 - 4. 18.18%

Question ID : 26433081476

Status : Answered

Chosen Option : 1

Q.7 उस शंकु का आयतन ज्ञात कीजिए, जिसकी ऊँचाई 24 cm और त्रिज्या 14 cm है।

- Ans
- 1. 4298 cm³
 - 2. 4928 cm³
 - 3. 9428 cm³
 - 4. 4982 cm³

Question ID : 26433073046

Status : Answered

Chosen Option : 2

Q.8 अंजलि द्वारा एक कार्य को पूरा करने में लिया गया समय रॉन द्वारा लिए गए समय का चार गुना और जॉन द्वारा लिए गए समय का तीन गुना है। यदि वे तीनों एक साथ कार्य करते हैं, तो पूरे कार्य को पूरा करने में उन्हें 4 दिन लगते हैं। अकेले रॉन द्वारा कितना कार्य किया गया?

- Ans
- 1. 7 दिन
 - 2. 8 दिन
 - 3. 6 दिन
 - 4. 11 दिन

Question ID : 264330116917

Status : Answered

Chosen Option : 2

Q.9 624 लीटर के मिश्रण में दूध और पानी का अनुपात 5 : 3 है। दूध और पानी का अनुपात 5 : 4 बनाने के लिए मिश्रण में और कितना पानी मिलाना होगा?

- Ans
- 1. 78 लीटर
 - 2. 84 लीटर
 - 3. 64 लीटर
 - 4. 54 लीटर

Question ID : 26433075720

Status : Answered

Chosen Option : 1

Q.10 एक मोबाइल फोन का अंकित मूल्य ₹10,000 था। दुकान के मालिक ने 10% छूट की घोषणा की, लेकिन ग्राहक के और अधिक अनुरोध पर, उसने नकद छूट देने के बाद इसे ₹8500 में बेच दिया। यह नकद छूट प्रतिशत में कितना है (2 दशमलव स्थान तक)?

- Ans
- 1. 6.25%
 - 2. 5.56%
 - 3. 6.65%
 - 4. 5.25%

Question ID : 26433082385

Status : Answered

Chosen Option : 2

Q.11 एक विद्यालय प्रबंधक 40 दिनों में एक नया विद्यालय भवन बनाने का निर्णय करता है। वह शुरुआत में 100 आदमी और 35 दिनों के बाद अन्य 100 आदमी को नियुक्त करता है और निर्धारित समय के भीतर निर्माण पूरा करता है। यदि उसने अतिरिक्त आदमियों को काम पर नहीं लगाया होता, तो विद्यालय भवन कितने दिन की देरी से बनकर तैयार होता?

- Ans
- 1. 5 दिन
 - 2. 3 दिन
 - 3. 4 दिन
 - 4. 2 दिन

Question ID : 26433075104

Status : Answered

Chosen Option : 4

Q.12 एक साइकिल चालक 140 m त्रिज्या के वृत्ताकार पथ पर साइकिल चलाकर 2 min में एक चक्कर पूरा करता है। साइकिल चालक की औसत चाल क्या है?

Ans

1. $550 \frac{\text{m}}{\text{min}}$

2. $440 \frac{\text{m}}{\text{min}}$

3. $660 \frac{\text{m}}{\text{min}}$

4. $880 \frac{\text{m}}{\text{min}}$

Question ID : 26433074275

Status : Answered

Chosen Option : 2

Q.13 एक व्यक्ति ने दो कलमों में से प्रत्येक को Rs.12 में बेचा। एक पर उसे 20% का लाभ हुआ और दूसरे पर उसे 20% की हानि हुई। कुल मिलाकर उसे _____ होता/होती है।

Ans 1. Rs.1 लाभ

2. न तो लाभ और न ही हानि

3. Rs.1 हानि

4. Rs.2 लाभ

Question ID : 26433075147

Status : Answered

Chosen Option : 3

Q.14 एक परिवार के चावल, पेट्रोल और तेल पर खर्च का अनुपात 8 : 11 : 6 है। यदि इन वस्तुओं की कीमतों में क्रमशः 10%, 20% और 30% की वृद्धि की जाती है, तो इन वस्तुओं पर परिवार द्वारा किये जाने वाले कुल खर्च में कितनी वृद्धि होगी?

Ans 1. 20.8%

2. 20.2%

3. 19.2%

4. 19.8%

Question ID : 26433080356

Status : Answered

Chosen Option : 3

Q.15 ₹12,000, 10% वार्षिक की चक्रवृद्धि ब्याज दर से वार्षिक चक्रवृद्धि आधार पर गणना किए जाने पर एक निश्चित अवधि में ₹15,972 हो जाते हैं। अवधि ज्ञात करें।

Ans 1. 1 वर्ष

2. 3 वर्ष

3. 4 वर्ष

4. 2 वर्ष

Question ID : 26433080123

Status : Answered

Chosen Option : 2

Q.16 समान लंबाई की दो रेलगाड़ियाँ समानांतर पटरियों पर विपरीत दिशाओं में क्रमशः 54 किमी/घंटा और 90 किमी/घंटा की चाल से चल रही हैं। वे 12 सेकंड में एक दूसरे को पार करती हैं। प्रत्येक रेलगाड़ी की लंबाई (मीटर में) ज्ञात कीजिए।

- Ans
- ✓ 1. 240
 - ✗ 2. 230
 - ✗ 3. 220
 - ✗ 4. 210

Question ID : 26433076307
Status : Answered
Chosen Option : 1

Q.17 7 cm त्रिज्या वाली एक गोलाकार पानी की टंकी को पेंट करने की लागत की गणना करें, यदि पेंटिंग की लागत ₹4.5/cm² है। $\pi = \frac{22}{7}$ लें।

- Ans
- ✗ 1. ₹2,277
 - ✓ 2. ₹2,772
 - ✗ 3. ₹2,272
 - ✗ 4. ₹2,727

Question ID : 26433076247
Status : Answered
Chosen Option : 2

Q.18 0.75 और 3 का मध्यानुपाती ज्ञात करें।

- Ans
- ✗ 1. 1
 - ✗ 2. 1.25
 - ✓ 3. 1.5
 - ✗ 4. 2

Question ID : 26433081714
Status : Answered
Chosen Option : 3

Q.19 यदि चावल की कीमत में 10% की कमी एक व्यक्ति को ₹250 में 22 kg अधिक चावल प्राप्त करने में सक्षम बनाती है, तो चावल की वास्तविक कीमत प्रति kg क्या है?

- Ans
- ✓ 1. ₹1.26
 - ✗ 2. ₹2.42
 - ✗ 3. ₹1.86
 - ✗ 4. ₹1.62

Question ID : 26433075809
Status : Answered
Chosen Option : 1

Q.20 2 संख्याओं का महत्तम समापवर्तक और लघुत्तम समापवर्त्य 32 और 192 हैं। संख्याओं में से एक संख्या 64 है। संख्याओं के बीच पूर्ण अंतर ज्ञात करें।

- Ans 1. 16
 2. 32
 3. 24
 4. 8

Question ID : 264330116651
Status : Answered
Chosen Option : 2

Section : Part-D-English

Q.1 Select the most appropriate homonym of the given word.

Blue

- Ans 1. Bellow
 2. Blew
 3. Below
 4. Blow

Question ID : 26433086347
Status : Not Answered
Chosen Option : --

Q.2 Select the most appropriate synonym of the underlined word in the given sentence.

No one can exterminate poverty from this world.

- Ans 1. secure
 2. eradicate
 3. endure
 4. plant

Question ID : 26433092912
Status : Not Answered
Chosen Option : --

Q.3 Fill in the blanks with appropriate homonym.

At a particular _____ of life, the body goes through some unnecessary changes.

- Ans 1. Stage (step)
 2. Plane
 3. Stage (a raised platform)
 4. Plain

Question ID : 26433092933
Status : Not Answered
Chosen Option : --

Q.4 Select the most appropriate synonym of the given word.

Manifest

- Ans 1. Apparent
 2. Concealed
 3. Natural
 4. Cryptic

Question ID : 26433073862
Status : Not Answered
Chosen Option : --

Q.5 Select the most appropriate option to substitute the underlined segment in the given sentence.

The bufotoxin present on a toad's skin can irritate you but touching a toad shall not cause you warts.

- Ans 1. was not cause
 2. has not give
 3. won't give
 4. do not cause

Question ID : 26433089832
Status : Not Answered
Chosen Option : --

Q.6 Select the most appropriate option to substitute the underlined segment in the given sentence.

The manager have get hot under the collar when the workers demanded higher wages.

- Ans 1. had get under the collar
 2. will got under the collar
 3. get hot under the collar
 4. got hot under the collar

Question ID : 26433073923
Status : Not Answered
Chosen Option : --

Q.7 Select the most appropriate option to fill in the blank.

The minister reached the venue of the programme before time which _____
wonder and awe among the organisers.

- Ans 1. strengthened
 2. lagged
 3. draped
 4. created

Question ID : 26433073789
Status : Not Answered
Chosen Option : --

Q.8 The sentence given below has one misspelt word. Spot the INCORRECTLY spelt word and select its correct spelling.

Abbreviations are not understood by everyone.

- Ans 1. Abbreviations
 2. Abbriviations
 3. Abriviations
 4. Abreviashions

Question ID : 26433073548
Status : Not Answered
Chosen Option : --

Q.9 Select the most appropriate ANTONYM of the given word.

Put forth

- Ans 1. Against
 2. Conceal
 3. Apply
 4. Stop

Question ID : 26433090797
Status : Not Answered
Chosen Option : --

Q.10 Select the most appropriate synonym of the underlined word.

We had to move slowly through the narrow alley.

- Ans 1. Cramped
 2. Dreary
 3. Maximum
 4. Imminent

Question ID : 26433088762
Status : Not Answered
Chosen Option : --

Q.11 Select the most appropriate option that can substitute the underlined segment in the given sentence.

We should also learn to trust what he says. After all, he is a reformed person now.

- Ans 1. no pain, no gain
 2. to give someone the benefit of the doubt
 3. to wrap our head around something
 4. to make matters worse

Question ID : 26433072097
Status : Not Answered
Chosen Option : --

Q.12 Select the most appropriate option that can substitute the underlined word in the given sentence.

Mr. Saxena has espoused a child from an orphanage.

- Ans
- 1. accepted
 - 2. adapted
 - 3. adepted
 - 4. adopted

Question ID : 264330101274
Status : Not Answered
Chosen Option : --

Q.13 Select the most appropriate ANTONYM of the given word.

Accurate

- Ans
- 1. Proficient
 - 2. Fiesta
 - 3. Unreliable
 - 4. Heist

Question ID : 26433073987
Status : Not Answered
Chosen Option : --

Q.14 Select the most appropriate option to fill in the blank.

His seat was the _____ in our row.

- Ans
- 1. farthest
 - 2. far
 - 3. near to
 - 4. further

Question ID : 26433090563
Status : Not Answered
Chosen Option : --

Q.15 Parts of the following sentence have been underlined and given as options. Select the option that contains an error.

Jiten and Hiru loves to eat French fries for lunch.

- Ans
- 1. lunch
 - 2. French fries
 - 3. eat
 - 4. loves

Question ID : 26433089369
Status : Not Answered
Chosen Option : --

Comprehension:

In the following passage, some words have been deleted. Read the passage carefully and select the most appropriate option to fill in each blank.

Maybe you're bored of bananas, apples and grapes and need a fresh produce pick? A nutrient-rich serving of kiwi fruit may be just what you need. A serving of kiwi fruit (2 kiwis) has twice the vitamin C of an orange, (1) _____ potassium as a banana and the fibre of a bowl of whole grain cereal—all for less than 100 calories!

The fuzzy fruit is sky-high in both soluble and insoluble fibre, both of which are essential for promoting heart health, (2) _____ digestion and lowering cholesterol levels—that's a winning trifecta. Kiwi fruit has also been considered a 'nutritional all-star,' as Rutgers University researchers found that kiwi fruit has the best nutrient density of 21 commonly consumed fruits.

Along with vitamin C, kiwi fruits are rich in many bioactive compounds that have antioxidant capacity to help protect against free radicals, harmful by-products produced in the body. If you want clean energy, think of kiwi fruit because they're rich in magnesium, a nutrient essential to (3) _____ food into energy.

A kiwi fruit also doubles as a peeper-keeper by supplying your eyes with protective lutein, a carotenoid that's concentrated in eye tissues and helps protect against harmful free radicals. Kiwi fruit is also (4) _____ with blood pressure-lowering potassium. In fact, a 100-gram serving of kiwi fruit—that's about one large kiwi—provides 15% of the Recommended Daily Allowance (RDA) of potassium.

Kiwi fruit has been growing in New Zealand for over 100 years. Once the fruit gained in popularity, other countries started to grow them including Italy, France, Chile, Japan, South Korea and Spain. At first, kiwis were referred to as 'Yang Tao' or 'Chinese Gooseberry,' but the name was (5) _____ changed to kiwi fruit so that everyone would know where the fruit came from.

SubQuestion No : 16

Q.16 Select the most appropriate option to fill in blank number 1.

- Ans 1. as much
 2. lot of
 3. much of
 4. as much as

Question ID : 26433088913

Status : Not Answered

Chosen Option : --

Comprehension:

In the following passage, some words have been deleted. Read the passage carefully and select the most appropriate option to fill in each blank.

Maybe you're bored of bananas, apples and grapes and need a fresh produce pick? A nutrient-rich serving of kiwi fruit may be just what you need. A serving of kiwi fruit (2 kiwis) has twice the vitamin C of an orange, (1) _____ potassium as a banana and the fibre of a bowl of whole grain cereal—all for less than 100 calories!

The fuzzy fruit is sky-high in both soluble and insoluble fibre, both of which are essential for promoting heart health, (2) _____ digestion and lowering cholesterol levels—that's a winning trifecta. Kiwi fruit has also been considered a 'nutritional all-star,' as Rutgers University researchers found that kiwi fruit has the best nutrient density of 21 commonly consumed fruits.

Along with vitamin C, kiwi fruits are rich in many bioactive compounds that have antioxidant capacity to help protect against free radicals, harmful by-products produced in the body. If you want clean energy, think of kiwi fruit because they're rich in magnesium, a nutrient essential to (3) _____ food into energy.

A kiwi fruit also doubles as a peeper-keeper by supplying your eyes with protective lutein, a carotenoid that's concentrated in eye tissues and helps protect against harmful free radicals. Kiwi fruit is also (4) _____ with blood pressure-lowering potassium. In fact, a 100-gram serving of kiwi fruit—that's about one large kiwi—provides 15% of the Recommended Daily Allowance (RDA) of potassium.

Kiwi fruit has been growing in New Zealand for over 100 years. Once the fruit gained in popularity, other countries started to grow them including Italy, France, Chile, Japan, South Korea and Spain. At first, kiwis were referred to as 'Yang Tao' or 'Chinese Gooseberry,' but the name was (5) _____ changed to kiwi fruit so that everyone would know where the fruit came from.

SubQuestion No : 17

Q.17 Select the most appropriate option to fill in blank number 2.

- Ans
- 1. taming
 - 2. regulating
 - 3. constraining
 - 4. repressing

Question ID : 26433088914

Status : Not Answered

Chosen Option : --

Comprehension:

In the following passage, some words have been deleted. Read the passage carefully and select the most appropriate option to fill in each blank.

Maybe you're bored of bananas, apples and grapes and need a fresh produce pick? A nutrient-rich serving of kiwi fruit may be just what you need. A serving of kiwi fruit (2 kiwis) has twice the vitamin C of an orange, (1) _____ potassium as a banana and the fibre of a bowl of whole grain cereal—all for less than 100 calories!

The fuzzy fruit is sky-high in both soluble and insoluble fibre, both of which are essential for promoting heart health, (2) _____ digestion and lowering cholesterol levels—that's a winning trifecta. Kiwi fruit has also been considered a 'nutritional all-star,' as Rutgers University researchers found that kiwi fruit has the best nutrient density of 21 commonly consumed fruits.

Along with vitamin C, kiwi fruits are rich in many bioactive compounds that have antioxidant capacity to help protect against free radicals, harmful by-products produced in the body. If you want clean energy, think of kiwi fruit because they're rich in magnesium, a nutrient essential to (3) _____ food into energy.

A kiwi fruit also doubles as a peeper-keeper by supplying your eyes with protective lutein, a carotenoid that's concentrated in eye tissues and helps protect against harmful free radicals. Kiwi fruit is also (4) _____ with blood pressure-lowering potassium. In fact, a 100-gram serving of kiwi fruit—that's about one large kiwi—provides 15% of the Recommended Daily Allowance (RDA) of potassium.

Kiwi fruit has been growing in New Zealand for over 100 years. Once the fruit gained in popularity, other countries started to grow them including Italy, France, Chile, Japan, South Korea and Spain. At first, kiwis were referred to as 'Yang Tao' or 'Chinese Gooseberry,' but the name was (5) _____ changed to kiwi fruit so that everyone would know where the fruit came from.

SubQuestion No : 18

Q.18 Select the most appropriate option to fill in blank number 3.

- Ans
- 1. displace
 - 2. convert
 - 3. revise
 - 4. vary

Question ID : 26433088915

Status : Not Answered

Chosen Option : --

Comprehension:

In the following passage, some words have been deleted. Read the passage carefully and select the most appropriate option to fill in each blank.

Maybe you're bored of bananas, apples and grapes and need a fresh produce pick? A nutrient-rich serving of kiwi fruit may be just what you need. A serving of kiwi fruit (2 kiwis) has twice the vitamin C of an orange, (1) _____ potassium as a banana and the fibre of a bowl of whole grain cereal—all for less than 100 calories!

The fuzzy fruit is sky-high in both soluble and insoluble fibre, both of which are essential for promoting heart health, (2) _____ digestion and lowering cholesterol levels—that's a winning trifecta. Kiwi fruit has also been considered a 'nutritional all-star,' as Rutgers University researchers found that kiwi fruit has the best nutrient density of 21 commonly consumed fruits.

Along with vitamin C, kiwi fruits are rich in many bioactive compounds that have antioxidant capacity to help protect against free radicals, harmful by-products produced in the body. If you want clean energy, think of kiwi fruit because they're rich in magnesium, a nutrient essential to (3) _____ food into energy.

A kiwi fruit also doubles as a peeper-keeper by supplying your eyes with protective lutein, a carotenoid that's concentrated in eye tissues and helps protect against harmful free radicals. Kiwi fruit is also (4) _____ with blood pressure-lowering potassium. In fact, a 100-gram serving of kiwi fruit—that's about one large kiwi—provides 15% of the Recommended Daily Allowance (RDA) of potassium.

Kiwi fruit has been growing in New Zealand for over 100 years. Once the fruit gained in popularity, other countries started to grow them including Italy, France, Chile, Japan, South Korea and Spain. At first, kiwis were referred to as 'Yang Tao' or 'Chinese Gooseberry,' but the name was (5) _____ changed to kiwi fruit so that everyone would know where the fruit came from.

SubQuestion No : 19

Q.19 Select the most appropriate option to fill in blank number 4.

- Ans
- 1. burdened
 - 2. packed
 - 3. condensed
 - 4. overstuffed

Question ID : 26433088916

Status : Not Answered

Chosen Option : --

Comprehension:

In the following passage, some words have been deleted. Read the passage carefully and select the most appropriate option to fill in each blank.

Maybe you're bored of bananas, apples and grapes and need a fresh produce pick? A nutrient-rich serving of kiwi fruit may be just what you need. A serving of kiwi fruit (2 kiwis) has twice the vitamin C of an orange, (1) _____ potassium as a banana and the fibre of a bowl of whole grain cereal—all for less than 100 calories!

The fuzzy fruit is sky-high in both soluble and insoluble fibre, both of which are essential for promoting heart health, (2) _____ digestion and lowering cholesterol levels—that's a winning trifecta. Kiwi fruit has also been considered a 'nutritional all-star,' as Rutgers University researchers found that kiwi fruit has the best nutrient density of 21 commonly consumed fruits.

Along with vitamin C, kiwi fruits are rich in many bioactive compounds that have antioxidant capacity to help protect against free radicals, harmful by-products produced in the body. If you want clean energy, think of kiwi fruit because they're rich in magnesium, a nutrient essential to (3) _____ food into energy.

A kiwi fruit also doubles as a peeper-keeper by supplying your eyes with protective lutein, a carotenoid that's concentrated in eye tissues and helps protect against harmful free radicals. Kiwi fruit is also (4) _____ with blood pressure-lowering potassium. In fact, a 100-gram serving of kiwi fruit—that's about one large kiwi—provides 15% of the Recommended Daily Allowance (RDA) of potassium.

Kiwi fruit has been growing in New Zealand for over 100 years. Once the fruit gained in popularity, other countries started to grow them including Italy, France, Chile, Japan, South Korea and Spain. At first, kiwis were referred to as 'Yang Tao' or 'Chinese Gooseberry,' but the name was (5) _____ changed to kiwi fruit so that everyone would know where the fruit came from.

SubQuestion No : 20

Q.20 Select the most appropriate option to fill in blank number 5.

- Ans
- 1. anon
 - 2. directly
 - 3. ultimately
 - 4. presently

Question ID : 26433088917

Status : Not Answered

Chosen Option : --

Section : Part-D-Hindi

Q.1 'मैं तुम्हारे _____ भविष्य की कामना करता हूँ।' वाक्य में रिक्त स्थान की पूर्ति शुद्ध शब्द द्वारा कीजिए।

- Ans
- 1. उज्वल
 - 2. उज्वल्ल
 - 3. उज्ज्वल
 - 4. उजवल

Question ID : 26433069703

Status : Answered

Chosen Option : 3

Q.2 दिए गए मुहावरे में रेखांकित अंश के स्थान पर सबसे उपयुक्त विकल्प कौन-सा होगा?
छाती पर चना दलना

- Ans
- 1. पानी
 - 2. तेल
 - 3. मूंग
 - 4. मक्का

Question ID : 26433066747
Status : Answered
Chosen Option : 3

Q.3 निम्नलिखित में से शुद्ध वाक्य कौन-सा है?

- Ans
- 1. विदुषी स्त्री का सम्मान करना चाहिए।
 - 2. शरीर पर कई अंग होते हैं।
 - 3. अपने बच्चों बहादुर बनाओ।
 - 4. मैं आप वहाँ जाऊँगा।

Question ID : 26433066999
Status : Answered
Chosen Option : 1

Q.4 निम्न वाक्य में रिक्त स्थान की पूर्ति उचित संज्ञा शब्द से करें।
वह अभी-अभी _____ के घर गया है।

- Ans
- 1. किसी
 - 2. लोकेश
 - 3. कोई
 - 4. दूसरे

Question ID : 26433085023
Status : Answered
Chosen Option : 2

Q.5 “आकाश में तम का साम्राज्य था।”
उक्त वाक्य में प्रयुक्त ‘तम’ के स्थान पर उसके विलोम शब्द का प्रयोग निम्न में से किस वाक्य में किया गया है?

- Ans
- 1. आकाश में तिमिर का साम्राज्य था।
 - 2. आकाश में प्रकाश का साम्राज्य था।
 - 3. आकाश में तारों का साम्राज्य था।
 - 4. आकाश में अंधकार का साम्राज्य था।

Question ID : 26433067024
Status : Answered
Chosen Option : 4

Q.6 “आप अपने लक्ष्य तक अवश्य पहुँचेंगे।”
उक्त वाक्य में प्रयुक्त ‘लक्ष्य’ के स्थान पर उसके समानार्थी शब्द का प्रयोग निम्न में से किस वाक्य में किया गया है?

- Ans
- 1. आप अपने अंत तक अवश्य पहुँचेंगे।
 - 2. आप अपने गंतव्य तक अवश्य पहुँचेंगे।
 - 3. आप अपने परिवार तक अवश्य पहुँचेंगे।
 - 4. आप अपने मार्ग तक अवश्य पहुँचेंगे।

Question ID : 26433067030
Status : Answered
Chosen Option : 2

Q.7 नीचे दिए गए वाक्य के रेखांकित भाग को उचित वाक्य-खंड से प्रतिस्थापित करें।
‘हमारे गले में पराधीनता की बेड़ियाँ पड़ी थीं।’

- Ans
- 1. हमारे गले में स्वाधीनता की बेड़ियाँ
 - 2. हमारे हाथों में पराधीनता की बेड़ियाँ
 - 3. हमारे पैरों में पराधीनता की बेड़ियाँ
 - 4. हमारे पैरों में पराधीनता की हथकड़ियाँ

Question ID : 26433062809
Status : Answered
Chosen Option : 3

Q.8 ‘किनारा’ का पर्यायवाची शब्द इनमें से क्या होगा?

- Ans
- 1. पानी
 - 2. तट
 - 3. तारिका
 - 4. आलय

Question ID : 26433066906
Status : Answered
Chosen Option : 2

Q.9 निम्न वाक्य में रेखांकित शब्द के स्थान पर सर्वोचित विकल्प चुनिए।
वह मिलनसार था, इसलिए उसने कई अपने बना लिए।

- Ans
- 1. शत्रु
 - 2. प्रेमी
 - 3. भक्त
 - 4. मित्र

Question ID : 26433084958
Status : Answered
Chosen Option : 4

Q.10 निम्नलिखित वाक्यांश के लिए एक सार्थक शब्द चुनिए।
वह पर्वत, जहाँ से सूर्य का अस्त माना जाता हो -

- Ans 1. अस्ताचल
 2. अनुपम
 3. अतुल
 4. अस्तगामी

Question ID : 26433062735
Status : Answered
Chosen Option : 1

Q.11 'सिर उठाना' मुहावरे का उचित अर्थ है-

- Ans 1. हर स्थिति में साथ देना
 2. सिर ऊपर करना
 3. विरोध में खड़ा होना
 4. पीछे पड़ना

Question ID : 26433065876
Status : Answered
Chosen Option : 3

Q.12 निम्न वाक्य में रेखांकित अंश के स्थान पर आने वाले सर्वाधिक उपयुक्त विकल्प का चयन कीजिए।
मैंने उसे बहुत समझाया पर वहाँ न मानी।

- Ans 1. वह
 2. कि
 3. तुम
 4. मैं

Question ID : 26433066879
Status : Answered
Chosen Option : 1

Q.13 निम्न वाक्यांश के लिए सार्थक शब्द का चयन विकल्पों में से कीजिए।
जानने की इच्छा

- Ans 1. पिपासा
 2. लिप्सा
 3. जिज्ञासा
 4. आशा

Question ID : 26433070086
Status : Answered
Chosen Option : 3

Q.14 निम्नलिखित विकल्पों में से कौनसा एक वाक्य साधारण क्रिया-विशेषण से सम्बन्ध नहीं रखता है?

- Ans
- 1. सेवक कहीं गया।
 - 2. हाय! वह यहाँ आता है।
 - 3. हाय! वह वहाँ जाता है।
 - 4. अरे! वह अब पढ़ना चाहता है।

Question ID : 26433091235

Status : Answered

Chosen Option : 1

Q.15 निम्नलिखित वाक्य में रिक्त स्थानों की पूर्ति उचित एकार्थी शब्दों से करें।
_____ बदलती नहीं है और _____ हमेशा बदलती है।

- Ans
- 1. टुटा-सपना
 - 2. झूठ-मौसम
 - 3. सत्य -सपना
 - 4. ऋत-ऋतु

Question ID : 26433091323

Status : Answered

Chosen Option : 4

Comprehension:

निम्नलिखित गद्यांश में कुछ शब्दों को हटा दिया गया है। दिए गए विकल्पों की सहायता से रिक्त स्थानों की पूर्ति कीजिए। प्रत्येक संख्या के लिए सबसे उपयुक्त विकल्प का चयन कीजिए।
आज फैशन का 1. _____ है। एक देश ही नहीं, सारा विश्व इससे 2. _____ है। विश्व में वैज्ञानिक 3. _____ बहुमुखी क्षेत्रों में हुई है। नए-नए 4. _____ के विकसित होने के कारण फैशन की दुनिया भी बढ़ती चली गई है। कल तक जो नया माना जाता था, आज पुराना लगने लगता है। विभिन्न औद्योगिक संस्थान नई से नई वस्तुएँ बनाते हैं और सभी को 5. _____ करने के लिए उनका व्यापक प्रचार करते हैं।

SubQuestion No : 16

Q.16 रिक्त स्थान 1 की पूर्ति के लिए सबसे उपयुक्त विकल्प का चयन कीजिए।

- Ans
- 1. हाल
 - 2. कार्य
 - 3. प्रतियोगिता
 - 4. युग

Question ID : 264330111101

Status : Answered

Chosen Option : 4

Comprehension:

निम्नलिखित गद्यांश में कुछ शब्दों को हटा दिया गया है। दिए गए विकल्पों की सहायता से रिक्त स्थानों की पूर्ति कीजिए। प्रत्येक संख्या के लिए सबसे उपयुक्त विकल्प का चयन कीजिए।
आज फैशन का 1. _____ है। एक देश ही नहीं, सारा विश्व इससे 2. _____ है। विश्व में वैज्ञानिक 3. _____ चहुमुखी क्षेत्रों में हुई है। नए-नए 4. _____ के विकसित होने के कारण फैशन की दुनिया भी बढ़ती चली गई है। कल तक जो नया माना जाता था, आज पुराना लगने लगता है। विभिन्न औद्योगिक संस्थान नई से नई वस्तुएँ बनाते हैं और सभी को 5. _____ करने के लिए उनका व्यापक प्रचार करते हैं।

SubQuestion No : 17

Q.17 रिक्त स्थान 2 की पूर्ति के लिए सबसे उपयुक्त विकल्प का चयन कीजिए।

- Ans
- 1. उलझा
 - 2. समाहित
 - 3. प्रभावित
 - 4. सहमा

Question ID : 264330111102

Status : Answered

Chosen Option : 3

Comprehension:

निम्नलिखित गद्यांश में कुछ शब्दों को हटा दिया गया है। दिए गए विकल्पों की सहायता से रिक्त स्थानों की पूर्ति कीजिए। प्रत्येक संख्या के लिए सबसे उपयुक्त विकल्प का चयन कीजिए।
आज फैशन का 1. _____ है। एक देश ही नहीं, सारा विश्व इससे 2. _____ है। विश्व में वैज्ञानिक 3. _____ चहुमुखी क्षेत्रों में हुई है। नए-नए 4. _____ के विकसित होने के कारण फैशन की दुनिया भी बढ़ती चली गई है। कल तक जो नया माना जाता था, आज पुराना लगने लगता है। विभिन्न औद्योगिक संस्थान नई से नई वस्तुएँ बनाते हैं और सभी को 5. _____ करने के लिए उनका व्यापक प्रचार करते हैं।

SubQuestion No : 18

Q.18 रिक्त स्थान 3 की पूर्ति के लिए सबसे उपयुक्त विकल्प का चयन कीजिए।

- Ans
- 1. प्रगति
 - 2. भाव
 - 3. दुर्गति
 - 4. व्यापकता

Question ID : 264330111103

Status : Answered

Chosen Option : 1

Comprehension:

निम्नलिखित गद्यांश में कुछ शब्दों को हटा दिया गया है। दिए गए विकल्पों की सहायता से रिक्त स्थानों की पूर्ति कीजिए। प्रत्येक संख्या के लिए सबसे उपयुक्त विकल्प का चयन कीजिए।

आज फैशन का 1. _____ है। एक देश ही नहीं, सारा विश्व इससे 2. _____ है। विश्व में वैज्ञानिक 3. _____ चहुमुखी क्षेत्रों में हुई है। नए-नए 4. _____ के विकसित होने के कारण फैशन की दुनिया भी बढ़ती चली गई है। कल तक जो नया माना जाता था, आज पुराना लगने लगता है। विभिन्न औद्योगिक संस्थान नई से नई वस्तुएँ बनाते हैं और सभी को 5. _____ करने के लिए उनका व्यापक प्रचार करते हैं।

SubQuestion No : 19

Q.19 रिक्त स्थान 4 की पूर्ति के लिए सबसे उपयुक्त विकल्प का चयन कीजिए।

- Ans 1. उपकरणों
 2. लोगों
 3. देशों
 4. अनिवार्यता

Question ID : 264330111104

Status : Answered

Chosen Option : 1

Comprehension:

निम्नलिखित गद्यांश में कुछ शब्दों को हटा दिया गया है। दिए गए विकल्पों की सहायता से रिक्त स्थानों की पूर्ति कीजिए। प्रत्येक संख्या के लिए सबसे उपयुक्त विकल्प का चयन कीजिए।

आज फैशन का 1. _____ है। एक देश ही नहीं, सारा विश्व इससे 2. _____ है। विश्व में वैज्ञानिक 3. _____ चहुमुखी क्षेत्रों में हुई है। नए-नए 4. _____ के विकसित होने के कारण फैशन की दुनिया भी बढ़ती चली गई है। कल तक जो नया माना जाता था, आज पुराना लगने लगता है। विभिन्न औद्योगिक संस्थान नई से नई वस्तुएँ बनाते हैं और सभी को 5. _____ करने के लिए उनका व्यापक प्रचार करते हैं।

SubQuestion No : 20

Q.20 रिक्त स्थान 5 की पूर्ति के लिए सबसे उपयुक्त विकल्प का चयन कीजिए।

- Ans 1. छलावा
 2. दिखावा
 3. आकर्षित
 4. बहलावा

Question ID : 264330111105

Status : Answered

Chosen Option : 3

Constable GD in CAPFs SSF Rifleman GD in Assam Rifles and Sepoy in NCB Examination 2022

Roll Number	KD Job Updates
Candidate Name	KD Job Updates
Venue Name	iON Digital Zone iDZ Kuberpur
Exam Date	16/01/2023
Exam Time	5:15 PM - 6:15 PM
Subject	Constable GD Examination 2022

Section : Part-A-General Intelligence and Reasoning

Q.1 निम्नलिखित में से कौन-सा अक्षर-समूह दी गई श्रृंखला में प्रश्न-चिह्न (?) के स्थान पर आएगा?
YSEA, WQGC, UOIE, ?, QKMI

- Ans
- 1. RMLH
 - 2. RMLG
 - 3. SMLH
 - 4. SMKG

Question ID : 26433076439

Status : Answered

Chosen Option : 4

Q.2 एक निश्चित कूट भाषा में, 'STORK' को 'URROO' के रूप में लिखा जाता है और 'ASHES' को 'CQKBW' के रूप में लिखा जाता है। उसी भाषा में 'BUNKE' को कैसे लिखा जाएगा?

- Ans
- 1. DSQHI
 - 2. DSPHG
 - 3. DSQGI
 - 4. DRPGI

Question ID : 26433069607

Status : Answered

Chosen Option : 1

Q.3 यदि श्रृंखला जारी रखनी है तो कौन-सी आकृति प्रश्न चिह्न (?) के स्थान पर

आएगी?

\cup X	C P	P X	
=	X =	= \cap	=
\cap	\cap	X	\cup
			?

Ans

✗ 1.

X	P
=	
\cup	

✗ 2.

T	
X	=
C	

✗ 3.

	P
=	
X	\cup

✓ 4.

	T
X	=
\cup	

Question ID : 26433076641

Status : Answered

Chosen Option : 4

Q.4 उस विकल्प का चयन करें, जो पाँचवें अक्षर-समूह से उसी प्रकार संबंधित है, जिस प्रकार दूसरा अक्षर-समूह पहले अक्षर-समूह से संबंधित है, और चौथा अक्षर-समूह तीसरे अक्षर-समूह से संबंधित है।
LEAP : KFZQ :: CLOS : BMNT :: EJOT : ?

Ans ✓ 1. DKNU

✗ 2. KCNS

✗ 3. DKNS

✗ 4. KDZO

Question ID : 26433080462

Status : Answered

Chosen Option : 1

Q.5 X और Z बहनें हैं। Y, Z का भाई है। S, Z की बेटी है। T, S का भाई है। T, U से विवाहित है। Y, S से किस प्रकार संबंधित है?

- Ans
- 1. मामा
 - 2. नाना
 - 3. भाई
 - 4. पिता

Question ID : 26433074600

Status : Answered

Chosen Option : 1

Q.6 दिए गए समीकरण को संतुलित करने के लिए विकल्पों में दी गई किन दो संख्याओं (अंकों को नहीं) को परस्पर बदलना होगा?

$$158 - 64 \times 6 \div 2 = 4 \times 15 \div 3$$

- Ans
- 1. 6 और 4
 - 2. 64 और 6
 - 3. 15 और 158
 - 4. 64 और 4


Question ID : 26433082479

Status : Answered

Chosen Option : 1

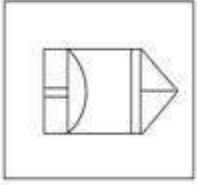
KD Job Updates

Q.7 निम्न विकल्पों में से उस उत्तर आकृति का चयन करें जिसमें नीचे दी गई प्रश्न आकृति निहित है (आकृति घुमाने की अनुमति नहीं है)।

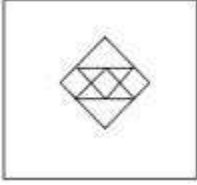


Ans

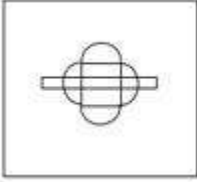
✗ 1.



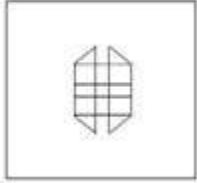
✗ 2.



✗ 3.



✓ 4.



Question ID : 26433070206

Status : Answered

Chosen Option : 4

Q.8 दिए गए विकल्पों में से वह संख्या चुनिए, जो निम्नलिखित श्रृंखला में प्रश्न-चिह्न (?) को प्रतिस्थापित कर सके।

784, 568, 443, ?, 352

Ans ✗ 1. 382

✗ 2. 361

✓ 3. 379

✗ 4. 427

Question ID : 26433074535

Status : Answered

Chosen Option : 3

Q.9 एक निश्चित कूट भाषा में, 'LEAF' को 'EZDK' के रूप में लिखा जाता है और 'PLANT' को 'SMZKO' के रूप में लिखा जाता है, उसी भाषा में 'FLOWER' को कैसे लिखा जाएगा?

- Ans
- 1. QDWNKE
 - 2. EDVNKE
 - 3. QDVNKE
 - 4. QDVNKD

Question ID : 26433079392

Status : Answered

Chosen Option : 3

Q.10 उस विकल्प का चयन करें, जो पाँचवीं संख्या से उसी प्रकार संबंधित है, जिस प्रकार दूसरी संख्या, पहली संख्या से संबंधित है और चौथी संख्या, तीसरी संख्या से संबंधित है।
46 : 11 :: 30 : 7 :: 50 : ?

- Ans
- 1. 13
 - 2. 8
 - 3. 12
 - 4. 9

Question ID : 26433069417

Status : Answered

Chosen Option : 3

Q.11 पांच व्यक्ति A, B, C, D और E एक सीधी पंक्ति में उत्तर की ओर मुख करके बैठे हैं। A, C के बाईं ओर ठीक बगल में बैठा है। A और E के बीच में केवल C बैठा है। B, E के दाईं ओर बैठा है। D, B के दाईं ओर बैठा है। पंक्ति के अंतिम बाएं सिरे पर कौन बैठा है?

- Ans
- 1. D
 - 2. A
 - 3. C
 - 4. B

Question ID : 26433074621

Status : Answered

Chosen Option : 2

Q.12 दो गई आकृति के सही दर्पण प्रतिबिम्ब का चयन करें जब दर्पण को MN पर रखा जाए जैसा कि नीचे दर्शाया गया है।



Ans

- ✓ 1. YmOIoIOTzB
✗ 2. YmOIoRTzB
✗ 3. YmOIoRtZB
✗ 4. YmOIoRTzB

Question ID : 26433085561

Status : Answered

Chosen Option : 1

Q.13 किस विकल्प में निम्नलिखित शब्दों का वह क्रम दिया गया है, जिस क्रम में वे अंग्रेजी शब्दकोश में आते हैं?

- 1 dream
2 drown
3 drone
4 dropped
5 drama

- Ans ✗ 1. 5,4,3,1,2
✓ 2. 5,1,3,4,2
✗ 3. 5,3,1,4,2
✗ 4. 5,2,3,1,4

Question ID : 26433069289

Status : Answered

Chosen Option : 2

Q.14 नीचे दिए गए समीकरण को गणितीय रूप से सही बनाने के लिए किन दो चिन्हों को परस्पर बदलना चाहिए?

$$72 - 36 \times 4 \div 6 + 24 = 42$$

- Ans ✗ 1. + और -
✗ 2. - और ÷
✓ 3. ÷ और x
✗ 4. x और +

Question ID : 264330117535

Status : Answered

Chosen Option : 3

Q.15 तीन कथनों के बाद दो निष्कर्ष दिए गए हैं। कथनों को सत्य मानते हुए, भले ही वे सामान्य रूप से ज्ञात तथ्यों से भिन्न प्रतीत होते हों, निर्णय करें कि कौन सा/से निष्कर्ष कथनों का तार्किक रूप से अनुसरण करता/करते है/हैं।

कथन:

कुछ ट्रेन बस हैं।

कोई भी बस कार नहीं है।

कुछ कार बाइक हैं।

निष्कर्ष:

1. कुछ बाइक कार हैं।

2. कुछ बाइक ट्रेन हैं।

Ans 1. केवल निष्कर्ष 2 अनुसरण करता है।

2. केवल निष्कर्ष 1 अनुसरण करता है।

3. न तो निष्कर्ष 1 और न ही 2 अनुसरण करता है।

4. निष्कर्ष 1 और 2 दोनों अनुसरण करते हैं।

Question ID : 26433089423

Status : Answered

Chosen Option : 2

Q.16 कौन-सा अक्षर-समूह दी गई श्रृंखला में प्रश्नचिह्न (?) के स्थान पर आकर श्रृंखला को पूर्ण करेगा?
ABDG, DEGJ, ?, JKMP, MNPS

Ans 1. FGIL

2. FHIK

3. GHJM

4. GHKM

Question ID : 26433067717

Status : Answered

Chosen Option : 3

Q.17 उस विकल्प का चयन कीजिए जो तीसरे शब्द से उसी प्रकार संबंधित है जिस प्रकार दूसरा शब्द पहले शब्द से संबंधित है। (शब्दों को अर्थपूर्ण शब्दों के रूप में मानना है और उन्हें शब्द में अक्षरों/व्यंजनों/स्वरों की संख्या के आधार पर एक-दूसरे से संबंधित नहीं करना है।)
प्रतिरोध : ओम :: ऊर्जा : ?

Ans 1. वाट

2. जूल

3. वोल्ट

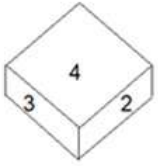
4. प्रबलता

Question ID : 26433067370

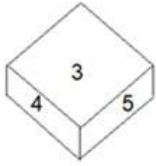
Status : Answered

Chosen Option : 2

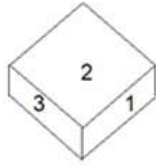
Q.18 एक ही पासे की तीन अलग-अलग स्थितियां दर्शाई गई हैं। '3' दर्शाने वाले फलक के विपरीत फलक पर संख्या ज्ञात करें।



आकृति 1



आकृति 2



आकृति 3

- Ans
- 1. 5
 - 2. 2
 - 3. 4
 - 4. 6

Question ID : 26433089453

Status : Answered

Chosen Option : 4

Q.19 निम्न में से कौन सी संख्या दी गई श्रृंखला में प्रश्नचिह्न (?) के स्थान पर आएगी?
8, 17, 36, ?, 154

- Ans
- 1. 75
 - 2. 46
 - 3. 86
 - 4. 57

Question ID : 26433076737

Status : Answered

Chosen Option : 1

Q.20 छः विद्यार्थी एक वृत्ताकार मेज के परितः मेज के केंद्र की ओर मुख करके बैठे हैं। F, A के ठीक बगल में है। D, E के दाईं ओर दूसरे स्थान पर बैठा है। B, E के ठीक बगल में है, और C के दाईं ओर दूसरे स्थान पर बैठा है। F, D के दाईं ओर दूसरे स्थान पर बैठा है। A, E के ठीक बगल में नहीं है। D और E के बीच में कौन बैठा है?

- Ans
- 1. A
 - 2. F
 - 3. B
 - 4. C

Question ID : 26433092766

Status : Answered

Chosen Option : 3

Q.1 जून 2022 में विपक्षी दलों द्वारा भारत के राष्ट्रपति पद का उम्मीदवार कौन था?

- Ans
- 1. द्रौपदी मुर्मू
 - 2. सोनिया गांधी
 - 3. यशवंत सिन्हा
 - 4. जयराम रमेश

Question ID : 264330114920

Status : Answered

Chosen Option : 3

Q.2 _____ मूल कर्तव्यों को भारतीय संविधान के भाग IV A के अनुच्छेद _____ में सूचीबद्ध किया गया है।

- Ans
- 1. 11; 51A
 - 2. 11; 52A
 - 3. 13; 52A
 - 4. 13; 51A

Question ID : 26433089910

Status : Answered

Chosen Option : 1

Q.3 भारत में, इस अधिनियम के अंतर्गत अंतर-धर्म विवाह किए जाते हैं:

- Ans
- 1. हिंदू विवाह एवं दत्तक ग्रहण अधिनियम
 - 2. विशेष विवाह अधिनियम
 - 3. भारतीय उत्तराधिकार अधिनियम
 - 4. सिविल प्रक्रिया संहिता

Question ID : 264330116223

Status : Answered

Chosen Option : 2

Q.4 सितंबर 2022 में, भारत के 16वें अटॉर्नी जनरल के रूप में किसे नियुक्त किया गया?

- Ans
- 1. गुलाम एस्साजी वाहनवती
 - 2. आर. वेंकटरमणि
 - 3. कोट्टयन कटंकोट वेणुगोपाल
 - 4. मुकुल रोहतगी

Question ID : 264330115025

Status : Answered

Chosen Option : 3

Q.5 निम्नलिखित सूची में से एक वामन ग्रह की पहचान करें।

- Ans
- 1. बुध
 - 2. प्लूटो
 - 3. नेपच्यून
 - 4. मंगल

Question ID : 26433087885

Status : Answered

Chosen Option : 2

Q.6 किसी राज्य में मंत्रियों को रैंक और विभागों का आवंटन निम्न में से किसके द्वारा किया जाता है?

- Ans
- 1. मुख्यमंत्री
 - 2. राजनीतिक दल के प्रमुख
 - 3. राज्यपाल
 - 4. स्पीकर

Question ID : 26433086673

Status : Answered

Chosen Option : 1

Q.7 खाद्य श्रृंखला में किसी जीव की विशिष्ट स्थिति क्या कहलाती है?

- Ans
- 1. उपभोक्ता
 - 2. पोषी स्तर
 - 3. बायोमास
 - 4. खड़ी फसल

Question ID : 264330115253

Status : Not Answered

Chosen Option : --

Q.8 2020 ग्रीष्मकालीन पैरालिम्पिक्स की मेजबानी _____ द्वारा की गई थी।

- Ans
- 1. रूस
 - 2. फ्रांस
 - 3. कोरिया
 - 4. जापान

Question ID : 264330115915

Status : Answered

Chosen Option : 4

Q.9 निम्नलिखित में से कौन से अशोक के शासन में एक प्रांतीय राजधानी थी?

I. तक्षशिला

II. उज्जैन

- Ans 1. I तथा II दोनों
 2. केवल II
 3. ना तो I ना तो II
 4. केवल I

Question ID : 26433085216

Status : Answered

Chosen Option : 4

Q.10 चेक लिखने वाले व्यक्ति या संस्था को भुगतानकर्ता या _____ के रूप में जाना जाता है।

- Ans 1. आहर्ता
 2. अदाकर्ता
 3. विक्रेता
 4. निर्माता

Question ID : 264330115322

Status : Answered

Chosen Option : 4

Q.11 मकर संक्रांति, 'उत्तरायण' की शुरुआत का प्रतीक है। यह _____ को मनाई जाती है।

- Ans 1. 20 जनवरी
 2. 16 मार्च
 3. 15 फरवरी
 4. 14 जनवरी

Question ID : 264330115096

Status : Answered

Chosen Option : 4

Q.12 भारत में हरित क्रांति 1960 के दशक के अंत में _____ में शुरू हुई थी।

- Ans 1. आंध्र प्रदेश
 2. महाराष्ट्र
 3. पंजाब
 4. उत्तराखंड

Question ID : 264330116157

Status : Answered

Chosen Option : 3

Q.13 उन लोगों के लिए क्या शब्द प्रयोग किया जाता है जो नियमित रूप से निर्धनता रेखा के अंदर और उससे बाहर होते रहते हैं?

- Ans
- 1. समान्यतः निर्धन
 - 2. चक्रीय निर्धन
 - 3. अनियमित निर्धन
 - 4. चिरकालिक निर्धन

Question ID : 264330116077
Status : Not Answered
Chosen Option : --

Q.14 निम्नलिखित में से कौन-सा नृत्य प्रकार झारखंड से संबंधित नहीं है?

- Ans
- 1. लावणी
 - 2. अग्नि
 - 3. फगुआ
 - 4. मर्दाना झूमर

Question ID : 26433071688
Status : Answered
Chosen Option : 1

Q.15 निम्नलिखित में से किस भारतीय शास्त्रीय नर्तक को संगीत नाटक अकादमी फेलो (अकादमी रत्न) से सम्मानित किया गया है?

- Ans
- 1. जोगेन दत्ता बयान
 - 2. सरोदी सैकिया
 - 3. सोनल मानसिंह
 - 4. टंकेश्वर हजारिका बोरबयान

Question ID : 264330115877
Status : Not Answered
Chosen Option : --

Q.16 LBW शब्द किस खेल से संबंधित है?

- Ans
- 1. वॉलीबॉल
 - 2. फुटबॉल
 - 3. बैडमिंटन
 - 4. क्रिकेट

Question ID : 264330116291
Status : Answered
Chosen Option : 4

Q.17 शेर खान ने _____ में चौसा में हुमायूँ को हराया।

- Ans
- 1. 1545
 - 2. 1537
 - 3. 1541
 - 4. 1539

Question ID : 264330115703
Status : Answered
Chosen Option : 4

Q.18 _____ एथेनॉइक एसिड का रासायनिक सूत्र है।

- Ans
- 1. CH_2COOH
 - 2. CH_3COOH
 - 3. CH_3OH
 - 4. CH_2OH

Question ID : 264330115155
Status : Not Answered
Chosen Option : --

Q.19 औद्योगिक रूप से विकसित शहरी केंद्र आमतौर पर किससे घिरे होते हैं?

- Ans
- 1. कृषि शहरी पृष्ठप्रदेश
 - 2. कृषि ग्रामीण पृष्ठप्रदेश
 - 3. बंदरगाह पृष्ठप्रदेश
 - 4. कॉस्टल पृष्ठप्रदेश

Question ID : 264330115569
Status : Answered
Chosen Option : 3

Q.20 Which of the following organization governs the international trade?

- Ans
- 1. Securities and Exchange Board of India
 - 2. International Labor Organization
 - 3. United Nations Educational, Scientific and Cultural Organization
 - 4. World Trade Organization

Question ID : 264330115384
Status : Answered
Chosen Option : 4

Q.1 $60 \div 5 \times \left(\frac{9}{8} \text{ of } \frac{4}{3} \div \frac{3}{4} \text{ of } \frac{2}{3}\right)$ का मान ज्ञात कीजिए।

- Ans
- 1. 24
 - 2. 12
 - 3. 48
 - 4. 36

Question ID : 26433074976

Status : Answered

Chosen Option : 4

Q.2 s^3 , s^2t , और st^2 का चतुर्थानुपाती ज्ञात कीजिए।

- Ans
- 1. t^2
 - 2. s^2t^2
 - 3. t^3
 - 4. st

Question ID : 26433080329

Status : Answered

Chosen Option : 3

Q.3 दो कारें दोपहर 12:00 बजे एक ही समय में 3.6 kms के एक वृत्ताकार पथ का चक्कर लगाना शुरू करती हैं। वे समान बिंदु से शुरू करती हैं तथा समान दिशा में चलती हैं। इनकी गति क्रमशः 72 kmph और 90 kmph है। कारें पुनः किस समय मिलेंगी?

- Ans
- 1. 12:03 PM
 - 2. 12:12 PM
 - 3. 12:09 PM
 - 4. 12:06 PM

Question ID : 264330116637

Status : Answered

Chosen Option : 4

Q.4 सुमन और अरुण मिलकर एक कार्य को 96 दिनों में, अरुण और राहुल 48 दिनों में और राहुल और सुमन 80 दिनों में पूरा कर सकते हैं, फिर राहुल, सुमन और अरुण मिलकर उसी कार्य को लगभग कितने दिनों में पूरा कर सकते हैं?

- Ans
- 1. 46 दिन
 - 2. 55 दिन
 - 3. 44 दिन
 - 4. 54 दिन

Question ID : 264330116907

Status : Answered

Chosen Option : 3

Q.5 एक दुकानदार ₹200 प्रति लीटर पर तेल बेचता है, जिसे उसने ₹160 प्रति लीटर में खरीदा था, लेकिन वह बेचते समय 1 लीटर के स्थान पर केवल 800 ml तेल देता है। लाभ का वास्तविक प्रतिशत ज्ञात करें।

- Ans
- 1. 52.25%
 - 2. 58.25%
 - 3. 54.25%
 - 4. 56.25%

Question ID : 26433080108

Status : Answered

Chosen Option : 4

Q.6 500 मीटर की दौड़ में, P, 2 kmph की चाल से दौड़ता है। P, Q को 20 मीटर की शुरुआती बढ़त देता है और फिर भी उसे 60 सेकंड से हरा देता है। Q की चाल ज्ञात कीजिए।

- Ans
- 1. 1.8 kmph
 - 2. 1.5 kmph
 - 3. 1.6 kmph
 - 4. 1.9 kmph

Question ID : 26433080243

Status : Answered

Chosen Option : 1

Q.7 $5x^2$ और $3xy$ का तृतीयानुपाती ज्ञात करें।

- Ans
- 1. $\frac{(9x^2)}{5}$
 - 2. $\frac{(9xy)}{5x}$
 - 3. $\frac{(9y^2)}{5}$
 - 4. $\frac{(9x^2y^2)}{5}$

Question ID : 26433076226

Status : Answered

Chosen Option : 3

Q.8 रीता कहती है कि वह अपना माल, क्रय मूल्य पर बेचती है। यदि वह 100 ग्राम के स्थान पर 80 ग्राम भार का उपयोग करती है, तो उसका लाभ प्रतिशत क्या होगा?

- Ans
- 1. 10%
 - 2. 20%
 - 3. 15%
 - 4. 25%

Question ID : 26433075654

Status : Answered

Chosen Option : 4

Q.9 मनोज म्यूचुअल फंड में Rs.57,695 का निवेश करता है, जो उसकी वार्षिक आय का 11% है। उसकी मासिक आय क्या होगी? (2 दशमलव स्थानों तक पूर्णांकित)

- Ans
- 1. Rs.63,441.99
 - 2. Rs.54,329.89
 - 3. Rs.43,708.33
 - 4. Rs.77,266.54

Question ID : 26433082711

Status : Answered

Chosen Option : 3

Q.10 10 व्यक्तियों के समूह में 20 kg वजन वाले एक व्यक्ति के स्थान पर एक नए व्यक्ति के शामिल होने पर उनका औसत वजन 7.9 kg बढ़ जाता है। नए व्यक्ति का वजन क्या है?

- Ans
- 1. 72 kg
 - 2. 99 kg
 - 3. 170 kg
 - 4. 86 kg

Question ID : 26433079996

Status : Answered

Chosen Option : 2

Q.11 यदि 9 व्यक्ति एक काम 18 दिन में कर सकते हैं, तो दोगुनी दक्षता वाले 18 व्यक्ति उसी काम को कितने दिन में कर सकते हैं?

- Ans
- 1. $\frac{7}{2}$ दिन
 - 2. $\frac{11}{2}$ दिन
 - 3. $\frac{5}{2}$ दिन
 - 4. $\frac{9}{2}$ दिन

Question ID : 26433080137

Status : Answered

Chosen Option : 4

Q.12 एक बल्लेबाज ने 96 रन बनाए जिसमें 2 चौके और 6 छक्के शामिल हैं। विकेटों के बीच दौड़कर उसने अपने कुल स्कोर का कितना प्रतिशत बनाया?

- Ans
- 1. 54.16 प्रतिशत
 - 2. 52.68 प्रतिशत
 - 3. 72.16 प्रतिशत
 - 4. 64.18 प्रतिशत

Question ID : 264330116827

Status : Answered

Chosen Option : 1

Q.13 एक घर का मूल्यांकन उस वर्ष की शुरुआत में उसके मूल्य की तुलना में एक वर्ष में 10% की दर से मूल्यहास होता है। यदि घर का वर्तमान मूल्य ₹40,00,000 है, तो तीन वर्ष बाद घर का मूल्य क्या होगा।

- Ans
- 1. ₹29,16,000
 - 2. ₹28,00,000
 - 3. ₹29,06,000
 - 4. ₹29,26,000

Question ID : 26433075885

Status : Answered

Chosen Option : 1

Q.14 आनंद स्थिर पानी में 8 km/h की चाल से नौकायन कर सकता है। उसे धारा के दिशा में नौकायन में जितना समय लगता है, उससे तीन गुना समय धारा के विपरीत दिशा में नौकायन में लगता है। धारा की चाल ज्ञात कीजिए।

- Ans
- 1. 4 km/h
 - 2. 4.5 km/h
 - 3. 3.5 km/h
 - 4. 3 km/h

Question ID : 26433080197

Status : Answered

Chosen Option : 1

Q.15 एक दुकान, नियमित रूप से, अंकित मूल्य पर 12% की छूट प्रदान करती है। त्योहारी सीजन के दौरान, यह 10% की क्रमिक छूट भी प्रदान करती है और मालिक अभी भी 5% लाभ अर्जित करता है। यदि नियमित छूट के साथ केवल 4% की क्रमिक छूट प्रदान की जाती, तो लाभ प्रतिशत कितना होता?

- Ans
- 1. 11%
 - 2. 12%
 - 3. 11.5%
 - 4. 12.5%

Question ID : 26433085449

Status : Not Answered

Chosen Option : --

Q.16 एक खिलौने का अंकित मूल्य Rs.1,600 है। यदि दुकानदार 10% की छूट और फिर 10% नकद छूट देता है, तो खिलौने का विक्रय मूल्य क्या होगा?

- Ans
- 1. Rs.1,096
 - 2. Rs.1,296
 - 3. Rs.1,088
 - 4. Rs.1,240

Question ID : 26433075661

Status : Answered

Chosen Option : 2

Q.17 राम, श्याम और मोहन के वज़न का अनुपात क्रमशः 7 : 8 : 5 है। राम, श्याम और मोहन का औसत वज़न 80 kg है। राम और श्याम का औसत वज़न क्या है?

- Ans
- 1. 95 kg
 - 2. 90 kg
 - 3. 80 kg
 - 4. 85 kg

Question ID : 26433075526

Status : Answered

Chosen Option : 2

Q.18 6 m त्रिज्या वाले एक गोले को दो बराबर भागों में काटा जाता है। इस प्रकार बने प्रत्येक अर्धगोले का आयतन ज्ञात कीजिए। ($\pi = \frac{22}{7}$ का प्रयोग करें)

- Ans
- 1. 331.14 m³
 - 2. 452.57 m³
 - 3. 562.18 m³
 - 4. 531.11 m³

Question ID : 26433080066

Status : Not Answered

Chosen Option : --

Q.19 एक ठोस शंकु को 30 पैसे प्रति cm^2 की दर से रंगने की लागत ₹660 है। शंकु की तिर्यक ऊँचाई 15

cm है तो इसकी त्रिज्या ज्ञात कीजिए। ($\pi = \frac{22}{7}$ का प्रयोग करें)

- Ans
- 1. 40 cm
 - 2. 20 cm
 - 3. 30 cm
 - 4. 50 cm

Question ID : 26433080071

Status : Not Answered

Chosen Option : --

Q.20 एक निश्चित राशि पर, दूसरे वर्ष के लिए 20% प्रति वर्ष की दर से वार्षिक रूप से संयोजित चक्रवृद्धि ब्याज Rs.1,300 है। राशि होगी (निकटतम पूर्णांकीय मान ज्ञात करें):

- Ans
- 1. Rs.4,416
 - 2. Rs.5,600
 - 3. Rs.5,416
 - 4. Rs.5,400

Question ID : 26433075390

Status : Answered

Chosen Option : 3

Section : Part-D-English

Q.1 The following sentence has been divided into parts. One of them may contain an error. Select the part that contains the error from the given options. If you don't find any error, mark 'No error' as your answer.

The blind man can perform / wonderfully well even though / he was old now.

- Ans
- 1. wonderfully well even though
 - 2. he was old now
 - 3. The blind man can perform
 - 4. No error

Question ID : 26433073764

Status : Not Answered

Chosen Option : --

Q.2 Select the most appropriate synonym of the word given in brackets to fill in the blank.

The soldiers exhibited their _____ (courage) during the war.

- Ans
- 1. timidity
 - 2. anchor
 - 3. candour
 - 4. valour

Question ID : 26433089075

Status : Not Answered

Chosen Option : --

Q.3 Select the most appropriate ANTONYM of the given word.

Disdain

- Ans
- 1. Respect
 - 2. Scorn
 - 3. Antipathy
 - 4. Dislike

Question ID : 26433072663
Status : Not Answered
Chosen Option : --

Q.4 Select the most appropriate option to fill in the blank.
He fell unconscious due to a snake bite, so the doctor quickly gave him _____.

- Ans
- 1. the antibiotic
 - 2. the antidote
 - 3. the antigen
 - 4. the antiquary

Question ID : 26433084653
Status : Not Answered
Chosen Option : --

Q.5 Select the most appropriate option that can substitute the underlined segment in the given sentence.

An unexpected power failure which happened besides the recording disheartened all of them.

- Ans
- 1. happened until the recording
 - 2. happen between the recording
 - 3. happened during the recording
 - 4. happened among the recording

Question ID : 264330100990
Status : Not Answered
Chosen Option : --

Q.6 Select the most appropriate spelling that can correctly substitute the misspelt underlined segment in the given sentence.

Who will adjuddicate on this matter?

- Ans
- 1. adjudiccate
 - 2. adjudicate
 - 3. adjjudicate
 - 4. addjudicate

Question ID : 26433071938
Status : Not Answered
Chosen Option : --

Q.7 Identify from the following options the word which is OPPOSITE in meaning to the given word.
Valiant

- Ans 1. Dull
 2. Cowardly
 3. Similar
 4. Heroic

Question ID : 26433088817
Status : Not Answered
Chosen Option : --

Q.8 Select the most appropriate meaning of the underlined idiom in the following sentence.

The local police were working hand in glove with Federal Bureau of Investigation to find the reasons behind the murder.

- Ans 1. In keeping with
 2. To be in close association
 3. To progress at equal rate
 4. To have liking for each other

Question ID : 26433073877
Status : Not Answered
Chosen Option : --

Q.9 Select the word segment that substitutes (replaces) the bracketed word segment correctly and completes the sentence meaningfully.

People in temperate (country pay little attention) to mangroves.

- Ans 1. country paid little attention
 2. countries pay little attention
 3. country pays little attention
 4. countries pays little attention

Question ID : 26433088960
Status : Not Answered
Chosen Option : --

Q.10 Select the correct pair of homonyms to fill in the blanks.

The Prime Minister _____ the nation asking for the _____ of the traitors.

- Ans 1. mean, meant
 2. meant, mean
 3. address, addressed
 4. addressed, address

Question ID : 26433061050
Status : Not Answered
Chosen Option : --

Q.11 Select the most appropriate synonym of the given word.

Timid

- Ans
- 1. Adventurous
 - 2. Fearful
 - 3. Bold
 - 4. Forthcoming

Question ID : 26433073686
Status : Not Answered
Chosen Option : --

Q.12 Select the most appropriate meaning of the given idiom.

Bounce something off someone

- Ans
- 1. Distribute materials to the poor and the needy
 - 2. Select members for something without their consent
 - 3. Throw stones at others without any reason
 - 4. Discuss ideas with someone to get their views

Question ID : 26433073489
Status : Not Answered
Chosen Option : --

Q.13 The sentence given below has one misspelt word. Spot the INCORRECTLY spelt word and select its correct spelling.

He picked up his lugage and crossed the road.

- Ans
- 1. Lagage
 - 2. Luggage
 - 3. Laggage
 - 4. Lugaze

Question ID : 26433073556
Status : Not Answered
Chosen Option : --

Q.14 Select the most appropriate synonym of the underlined word.

The price of fuel is declining as the elections are approaching.

- Ans
- 1. Extending
 - 2. Increasing
 - 3. Exalting
 - 4. Decreasing

Question ID : 26433084684
Status : Not Answered
Chosen Option : --

Q.15 Select the most appropriate homonym to fill in the blank.
I think he is the _____ person for this job.

- Ans** 1. right
 2. write
 3. wright
 4. rite

Question ID : 26433060049

Status : Not Answered

Chosen Option : --

Comprehension:

In the following passage, some words have been deleted. Read the passage carefully and select the most appropriate option to fill in each blank.

While stone sculptures and reliefs (1)_____ the exterior of great religious monuments for many centuries, bronze sculptures of the gods were probably a later development. In southern India, kings and queens of the Chola dynasty were well- known patrons of great Hindu (2)_____. Marvellous bronze sculptures were worshipped in the temple context, and carried through the streets in (3)_____ during religious festivals. Such great temple festivals, involving massive carts that transport divine images, still (4)_____ today throughout India, and major celebrations may draw hundreds of thousands of participants. Such images were popular during the Chola dynasty because people increasingly wanted a more intimate, emotional relationship with the gods. These ideas were (5)_____ to the religious movement known as 'Bhakti', a personal and emotional experience of divinity.

SubQuestion No : 16

Q.16 Select the most appropriate option to fill in blank number 1.

- Ans** 1. ornamented
 2. ruined
 3. overshadowed
 4. monitored

Question ID : 26433072736

Status : Not Answered

Chosen Option : --

Comprehension:

In the following passage, some words have been deleted. Read the passage carefully and select the most appropriate option to fill in each blank.

While stone sculptures and reliefs (1)_____ the exterior of great religious monuments for many centuries, bronze sculptures of the gods were probably a later development. In southern India, kings and queens of the Chola dynasty were well- known patrons of great Hindu (2)_____. Marvellous bronze sculptures were worshipped in the temple context, and carried through the streets in (3)_____ during religious festivals. Such great temple festivals, involving massive carts that transport divine images, still (4)_____ today throughout India, and major celebrations may draw hundreds of thousands of participants. Such images were popular during the Chola dynasty because people increasingly wanted a more intimate, emotional relationship with the gods. These ideas were (5)_____ to the religious movement known as 'Bhakti', a personal and emotional experience of divinity.

SubQuestion No : 17

Q.17 Select the most appropriate option to fill in blank number 2.

- Ans 1. states
 2. saints
 3. regulations
 4. temples

Question ID : 26433072737

Status : Not Answered

Chosen Option : --

Comprehension:

In the following passage, some words have been deleted. Read the passage carefully and select the most appropriate option to fill in each blank.

While stone sculptures and reliefs (1)_____ the exterior of great religious monuments for many centuries, bronze sculptures of the gods were probably a later development. In southern India, kings and queens of the Chola dynasty were well- known patrons of great Hindu (2)_____. Marvellous bronze sculptures were worshipped in the temple context, and carried through the streets in (3)_____ during religious festivals. Such great temple festivals, involving massive carts that transport divine images, still (4)_____ today throughout India, and major celebrations may draw hundreds of thousands of participants. Such images were popular during the Chola dynasty because people increasingly wanted a more intimate, emotional relationship with the gods. These ideas were (5)_____ to the religious movement known as 'Bhakti', a personal and emotional experience of divinity.

SubQuestion No : 18

Q.18 Select the most appropriate option to fill in blank number 3.

- Ans 1. competitions
 2. vessels
 3. patterns
 4. processions

Question ID : 26433072738

Status : Not Answered

Chosen Option : --

Comprehension:

In the following passage, some words have been deleted. Read the passage carefully and select the most appropriate option to fill in each blank.

While stone sculptures and reliefs (1)_____ the exterior of great religious monuments for many centuries, bronze sculptures of the gods were probably a later development. In southern India, kings and queens of the Chola dynasty were well- known patrons of great Hindu (2)_____. Marvellous bronze sculptures were worshipped in the temple context, and carried through the streets in (3)_____ during religious festivals. Such great temple festivals, involving massive carts that transport divine images, still (4)_____ today throughout India, and major celebrations may draw hundreds of thousands of participants. Such images were popular during the Chola dynasty because people increasingly wanted a more intimate, emotional relationship with the gods. These ideas were (5)_____ to the religious movement known as 'Bhakti', a personal and emotional experience of divinity.

SubQuestion No : 19

Q.19 Select the most appropriate option to fill in blank number 4.

- Ans 1. inspire
 2. herald
 3. occur
 4. accede

Question ID : 26433072739

Status : Not Answered

Chosen Option : --

Comprehension:

In the following passage, some words have been deleted. Read the passage carefully and select the most appropriate option to fill in each blank.

While stone sculptures and reliefs (1)_____ the exterior of great religious monuments for many centuries, bronze sculptures of the gods were probably a later development. In southern India, kings and queens of the Chola dynasty were well- known patrons of great Hindu (2)_____. Marvellous bronze sculptures were worshipped in the temple context, and carried through the streets in (3)_____ during religious festivals. Such great temple festivals, involving massive carts that transport divine images, still (4)_____ today throughout India, and major celebrations may draw hundreds of thousands of participants. Such images were popular during the Chola dynasty because people increasingly wanted a more intimate, emotional relationship with the gods. These ideas were (5)_____ to the religious movement known as 'Bhakti', a personal and emotional experience of divinity.

SubQuestion No : 20

Q.20 Select the most appropriate option to fill in blank number 5.

- Ans 1. contrary
 2. foreign
 3. central
 4. analogous

Question ID : 26433072740

Status : Not Answered

Chosen Option : --

Q.1 निम्नलिखित में से शुद्ध वाक्य है-

- Ans
- 1. कई खिलाड़ी वह जमा हो गए।
 - 2. कई खिलाड़ी वहां जमा हो गए।
 - 3. कई खिड़की वहां जमा हो गए।
 - 4. कई खिलाड़ी वहां जम हो गए।

Question ID : 26433066841

Status : Answered

Chosen Option : 2

Q.2 निम्नलिखित विकल्पों में से 'कान भरना' मुहावरे का अर्थ क्या है?

- Ans
- 1. बुराई करना
 - 2. सम्मान करना
 - 3. भलाई करना
 - 4. निरादर करना

Question ID : 26433062550

Status : Answered

Chosen Option : 1

Q.3 निम्नलिखित विकल्पों में से किस एक वाक्य में विशेषण का उचित प्रयोग किया गया है?

- Ans
- 1. उसका घोड़ा सुन्दर है।
 - 2. रमेश घर में है।
 - 3. मोहन गाँव में रहता है।
 - 4. सोहन प्रयागराज में है।

Question ID : 26433062963

Status : Answered

Chosen Option : 1

Q.4 निम्नलिखित में से कौन सा एक अकर्मक क्रिया का उदाहरण नहीं है?

- Ans
- 1. सीता खाना बनाती है।
 - 2. अशोक हंसता है।
 - 3. हनसा रोती है।
 - 4. सोना चमकता है।

Question ID : 26433085042

Status : Answered

Chosen Option : 4

Q.5 निम्नलिखित विकल्पों में से 'ऐसे स्थान का वास जहाँ कोई पता न पा सके' वाक्यांश के लिए एक सार्थक शब्द क्या होगा ?

- Ans
- 1. निवास
 - 2. दूरस्थ
 - 3. निकटवास
 - 4. अज्ञातवास

Question ID : 26433062533

Status : Answered

Chosen Option : 4

Q.6 निम्नलिखित विकल्पों में से 'जिसका एक-एक शब्द मिलता हो' वाक्यांश के लिए एक सार्थक शब्द कौन सा है?

- Ans
- 1. सहगान
 - 2. समदर्शी
 - 3. अथाह
 - 4. शब्दशः

Question ID : 264330109528

Status : Answered

Chosen Option : 4

Q.7 'जंगल का राजा शेर होता है।' वाक्य में प्रयुक्त 'जंगल' शब्द का पर्यायवाची शब्द नहीं है-

- Ans
- 1. कांठार
 - 2. अयस
 - 3. विपिन
 - 4. कानन

Question ID : 26433069740

Status : Answered

Chosen Option : 4

Q.8 निम्नलिखित वाक्य में रेखांकित खंड के स्थान पर प्रयुक्त होने वाले सबसे उपयुक्त विकल्प का चयन कीजिए।
आपकी घड़ी में कितनी बजे हैं?

- Ans
- 1. कितने
 - 2. कब
 - 3. किते
 - 4. कैसे

Question ID : 26433079573

Status : Answered

Chosen Option : 1

Q.9 निम्नलिखित वाक्य में रेखांकित शब्द का, विकल्पों में दिए गये शब्दों में से कौन-सा शब्द पर्यायवाची नहीं है?
मेरे जीवन का यही एकमात्र 'लक्ष्य' है।

- Ans
- 1. उद्देश
 - 2. भवन
 - 3. मंजिल
 - 4. निशाना

Question ID : 26433085069
Status : Answered
Chosen Option : 1

Q.10 एक दिन के उपवास के बाद मोहन के पेट में _____ कूदने लगे।
उपरोक्त वाक्य में रिक्त स्थान की पूर्ति उचित शब्द द्वारा कीजिए।

- Ans
- 1. बिल्ली
 - 2. चूहे
 - 3. कुत्ते
 - 4. मेढ़क

Question ID : 26433062617
Status : Answered
Chosen Option : 2

Q.11 'आदि से अंत तक' वाक्यांश के लिए एक शब्द क्या होगा?

- Ans
- 1. आपादमस्तक
 - 2. अभ्याख्यान
 - 3. आद्योपान्त
 - 4. प्रारम्भिक

Question ID : 26433070050
Status : Answered
Chosen Option : 3

Q.12 निम्नलिखित वाक्य में रेखांकित शब्द के विलोम शब्द का प्रयोग करके रिक्त स्थान की पूर्ति कीजिए।
ऊपर से सोने का स्वभाव स्थिर है जबकि वास्तव में वह _____ है।

- Ans
- 1. चंचल
 - 2. सूक्ष्म
 - 3. जागरण
 - 4. अचल

Question ID : 26433091347
Status : Answered
Chosen Option : 1

Q.13 'उपकरण' के एकार्थी शब्द चयन कर निम्न वाक्य वाक्य में रिक्त स्थान की पूर्ति कीजिए।
आप सारे _____ को एकत्रित कीजिए।

- Ans 1. उपादानों
 2. उदाहरणों
 3. वस्तुओं
 4. साधनाओं

Question ID : 26433063082
Status : Answered
Chosen Option : 3

Q.14 राजपथ से झाकियाँ वापस लौट गयीं।
इस गलत वाक्य के बदले सही वाक्य का चयन कीजिए।

- Ans 1. राजपथ से झाकियाँ वापस लौट गईं।
 2. राजपथ से झाकियाँ सारी फूट पड़ीं।
 3. राजपथ से झाकियाँ लौट गयीं।
 4. राजपथ से एक झाकियाँ निकल पड़ीं।

Question ID : 26433062695
Status : Answered
Chosen Option : 3

Q.15 नीचे दिए गए वाक्य के शुद्ध रूप का चयन विकल्पों में से कीजिए।
वह चारपाई पर बिछोना बिछा दिया।

- Ans 1. वह चारपाई में बिछोना बिछा दिया।
 2. उसने चारपाई में बिछोना बिछाए।
 3. वह चारपाई में बिछोना बिछा दी।
 4. उसने चारपाई पर बिछौना बिछा दिया।

Question ID : 26433063071
Status : Answered
Chosen Option : 4

Comprehension:

निम्नलिखित गद्यांश में कुछ शब्दों को हटा दिया गया है। दिए गए विकल्पों की सहायता से रिक्त स्थानों की पूर्ति कीजिए। प्रत्येक संख्या के लिए सबसे उपयुक्त विकल्प का चयन कीजिए।
बुद्धिजीवी से तात्पर्य उन व्यक्तियों से है जो 1. _____ का अधिक उपयोग करके जीवन चलाते हैं अर्थात् 2. _____ अर्जित करते हैं। समाज में मुख्यतः दो प्रकार के व्यक्ति हैं- एक वे जो अपने जीवन में 3. _____ श्रम अधिक करते हैं और दूसरे वे जो शारीरिक श्रम की अपेक्षा 4. _____ बल से काम करते हैं। समाज के लिए दोनों की 5. _____ भूमिका है।

SubQuestion No : 16

Q.16 रिक्त स्थान 1 की पूर्ति के लिए सबसे उपयुक्त विकल्प का चयन कीजिए।

- Ans 1. बुद्धि
 2. बल
 3. दिखावे
 4. दृष्टि

Question ID : 264330111017
Status : Answered
Chosen Option : 1

Comprehension:

निम्नलिखित गद्यांश में कुछ शब्दों को हटा दिया गया है। दिए गए विकल्पों की सहायता से रिक्त स्थानों की पूर्ति कीजिए। प्रत्येक संख्या के लिए सबसे उपयुक्त विकल्प का चयन कीजिए।
बुद्धिजीवी से तात्पर्य उन व्यक्तियों से है जो 1. _____ का अधिक उपयोग करके जीवन चलाते हैं अर्थात् 2. _____ अर्जित करते हैं। समाज में मुख्यतः दो प्रकार के व्यक्ति हैं- एक वे जो अपने जीवन में 3. _____ श्रम अधिक करते हैं और दूसरे वे जो शारीरिक श्रम की अपेक्षा 4. _____ बल से काम करते हैं। समाज के लिए दोनों की 5. _____ भूमिका है।

SubQuestion No : 17

Q.17 रिक्त स्थान 2 की पूर्ति के लिए सबसे उपयुक्त विकल्प का चयन कीजिए।

- Ans 1. भूमिका
 2. जीविका
 3. श्रम
 4. परिवर्तन

Question ID : 264330111018

Status : Answered

Chosen Option : 1

Comprehension:

निम्नलिखित गद्यांश में कुछ शब्दों को हटा दिया गया है। दिए गए विकल्पों की सहायता से रिक्त स्थानों की पूर्ति कीजिए। प्रत्येक संख्या के लिए सबसे उपयुक्त विकल्प का चयन कीजिए।
बुद्धिजीवी से तात्पर्य उन व्यक्तियों से है जो 1. _____ का अधिक उपयोग करके जीवन चलाते हैं अर्थात् 2. _____ अर्जित करते हैं। समाज में मुख्यतः दो प्रकार के व्यक्ति हैं- एक वे जो अपने जीवन में 3. _____ श्रम अधिक करते हैं और दूसरे वे जो शारीरिक श्रम की अपेक्षा 4. _____ बल से काम करते हैं। समाज के लिए दोनों की 5. _____ भूमिका है।

SubQuestion No : 18

Q.18 रिक्त स्थान 3 की पूर्ति के लिए सबसे उपयुक्त विकल्प का चयन कीजिए।

- Ans 1. शारीरिक
 2. मज़दूरी
 3. प्राचीन
 4. दिखावा

Question ID : 264330111019

Status : Answered

Chosen Option : 1

Comprehension:

निम्नलिखित गद्यांश में कुछ शब्दों को हटा दिया गया है। दिए गए विकल्पों की सहायता से रिक्त स्थानों की पूर्ति कीजिए। प्रत्येक संख्या के लिए सबसे उपयुक्त विकल्प का चयन कीजिए।
बुद्धिजीवी से तात्पर्य उन व्यक्तियों से है जो 1. _____ का अधिक उपयोग करके जीवन चलाते हैं अर्थात् 2. _____ अर्जित करते हैं। समाज में मुख्यतः दो प्रकार के व्यक्ति हैं- एक वे जो अपने जीवन में 3. _____ श्रम अधिक करते हैं और दूसरे वे जो शारीरिक श्रम की अपेक्षा 4. _____ बल से काम करते हैं। समाज के लिए दोनों की 5. _____ भूमिका है।

SubQuestion No : 19

Q.19 रिक्त स्थान 4 की पूर्ति के लिए सबसे उपयुक्त विकल्प का चयन कीजिए।

- Ans
- 1. बाहु
 - 2. शस्त्र
 - 3. बड़े
 - 4. बुद्धि

Question ID : 264330111020

Status : Answered

Chosen Option : 4

Comprehension:

निम्नलिखित गद्यांश में कुछ शब्दों को हटा दिया गया है। दिए गए विकल्पों की सहायता से रिक्त स्थानों की पूर्ति कीजिए। प्रत्येक संख्या के लिए सबसे उपयुक्त विकल्प का चयन कीजिए।
बुद्धिजीवी से तात्पर्य उन व्यक्तियों से है जो 1. _____ का अधिक उपयोग करके जीवन चलाते हैं अर्थात् 2. _____ अर्जित करते हैं। समाज में मुख्यतः दो प्रकार के व्यक्ति हैं- एक वे जो अपने जीवन में 3. _____ श्रम अधिक करते हैं और दूसरे वे जो शारीरिक श्रम की अपेक्षा 4. _____ बल से काम करते हैं। समाज के लिए दोनों की 5. _____ भूमिका है।

SubQuestion No : 20

Q.20 रिक्त स्थान 5 की पूर्ति के लिए सबसे उपयुक्त विकल्प का चयन कीजिए।

- Ans
- 1. चिंतित
 - 2. कम
 - 3. अनिवार्य
 - 4. विवश

Question ID : 264330111021

Status : Answered

Chosen Option : 3

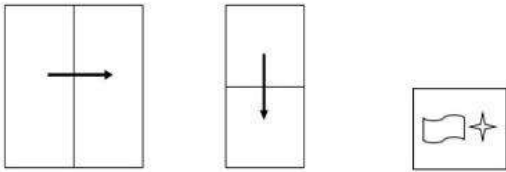
Constable GD in CAPFs SSF Rifleman GD in Assam Rifles and Sepoy in NCB Examination 2022

Roll Number	KD Job Updates
Candidate Name	KD Job Updates
Venue Name	iON Digital Zone iDZ Laxman Nagar
Exam Date	17/01/2023
Exam Time	9:00 AM - 10:00 AM
Subject	Constable GD Examination 2022

Section : Part-A-General Intelligence and Reasoning

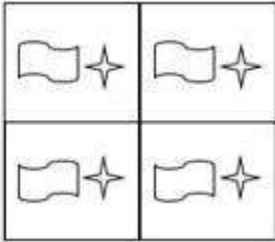
Q.1 एक कागज को नीचे दिखाये गए रूप में मोड़ा और काटा जाता है। खोलने पर यह कैसे

दिखाई देगा?

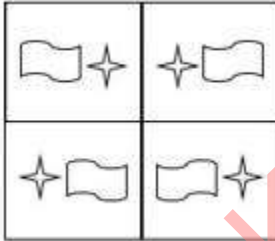


Ans

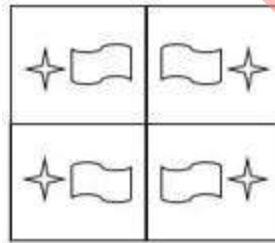
✗ 1.



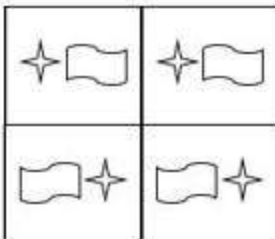
✗ 2.



✓ 3.



✗ 4.



Question ID : 26433089783

Status : Answered

Chosen Option : 3

Q.2 छः व्यक्ति M, N, O, P, Q और R एक सीधी पंक्ति में उत्तर की ओर मुख करके बैठे हैं। O, N के दाईं ओर ठीक बगल में बैठा है। P, O के दाईं ओर ठीक बगल में बैठा है। Q, P के दाईं ओर ठीक बगल में बैठा है। R, N के बाईं ओर ठीक बगल में बैठा है। यदि M के दाईं ओर केवल पांच व्यक्ति बैठे हैं, तो पंक्ति के अंतिम दाएं सिरे पर कौन बैठा है?

- Ans 1. N
 2. Q
 3. P
 4. R

Question ID : 26433069154

Status : Answered

Chosen Option : 2

Q.3 उस विकल्प का चयन करें, जो पाँचवीं संख्या से उसी प्रकार संबंधित है, जिस प्रकार दूसरी संख्या, पहली संख्या से संबंधित है और चौथी संख्या, तीसरी संख्या से संबंधित है।
1 : 36 :: 2 : 49 :: 4 : ?

- Ans 1. 93
 2. 82
 3. 90
 4. 81

Question ID : 26433069413

Status : Answered

Chosen Option : 4

Q.4 उस विकल्प का चयन कीजिए जो तीसरे शब्द से उसी प्रकार संबंधित है जिस प्रकार दूसरा शब्द पहले शब्द से संबंधित है। (शब्दों को अर्थपूर्ण शब्दों के रूप में मानना है और उन्हें शब्द में अक्षरों/व्यंजनों/स्वरों की संख्या के आधार पर एक-दूसरे से संबंधित नहीं करना है।)
माली : हैरो :: किसान : ?

- Ans 1. बीज
 2. पानी
 3. हल
 4. भूमि

Question ID : 26433067366

Status : Marked For Review

Chosen Option : 3

Q.5 निम्नलिखित में से कौन-सी संख्या दी गई श्रंखला में प्रश्न-चिह्न (?) के स्थान पर आएगी?
98, 93, 89, ?, 84

- Ans 1. 86
 2. 85
 3. 90
 4. 87

Question ID : 26433085349

Status : Answered

Chosen Option : 1

Q.6 दिए गए समीकरण को संतुलित करने के लिए इसकी किन दो संख्याओं(अंको को नहीं) को परस्पर बदलना होगा?
 $15 \div 5 \times 12 + 6 = 65 - 35$

- Ans
- 1. 5, 15
 - 2. 6, 12
 - 3. 12, 65
 - 4. 5, 35

Question ID : 26433087049

Status : Answered

Chosen Option : 2

Q.7 एक कूट भाषा में, 'fast track him' को 'le pa da' के रूप में कूटबद्ध किया जाता है, 'we give fast' को 'da jo he' के रूप में कूटबद्ध किया जाता है और 'track my order' को 'vu ba le' के रूप में कूटबद्ध किया जाता है। शब्द 'him' के लिए कूट क्या होगा?

- Ans
- 1. de
 - 2. pa
 - 3. le
 - 4. jo

Question ID : 26433086984

Status : Answered

Chosen Option : 2

Q.8 दी गई आकृति के सही दर्पण प्रतिबिम्ब का चयन करें जब दर्पण को MN पर रखा जाए जैसा कि नीचे दर्शाया गया है।

tOgeTHer

M

|

N

- Ans
- 1. rəHTəgOt
 - 2. TəgəTHER
 - 3. rəHTəgOt
 - 4. TəgəTHER

Question ID : 26433085557

Status : Answered

Chosen Option : 1

Q.9 'A + B' का अर्थ है 'A, B का भाई है'
'A - B' का अर्थ है 'A, B की माँ है'
'A × B' का अर्थ है 'A, B का पति है'
'A ÷ B' का अर्थ है 'A, B की बहन है'
यदि $B \times D \div F - H + J \div S$ है, तो निम्नलिखित में से कौन-सा कथन सही नहीं है?

- Ans
- 1. B, F की बहन का पति है।
 - 2. J, H की बहन है।
 - 3. F, D की बहन है।
 - 4. H, D का पुत्र है।

Question ID : 26433082636

Status : Answered

Chosen Option : 4

Q.10 उस विकल्प का चयन कीजिये जो तीसरे शब्द से उसी प्रकार संबंधित है जैसे दूसरा शब्द पहले शब्द से संबंधित है। (शब्दों को अर्थपूर्ण शब्दों के रूप में माना जाना चाहिए और उन्हें शब्द में अक्षरों की संख्या / व्यंजनों/स्वरों की संख्या के आधार पर एक दूसरे से संबंधित नहीं किया जाना चाहिए)
2D : त्रिभुज :: 3D : _____

- Ans
- 1. अर्धगोला
 - 2. आयत
 - 3. आकृति
 - 4. वर्ग

Question ID : 26433082658

Status : Answered

Chosen Option : 1

Q.11 तीन कथनों के बाद दो निष्कर्ष संख्या 1 और 2 दिए गए हैं। कथनों को सत्य मानते हुए भले ही वे सामान्य रूप से ज्ञात तथ्यों से भिन्न प्रतीत होते हों, निर्णय लें कि कौन-सा/से निष्कर्ष कथनों का तार्किक रूप से अनुसरण करता है/करते हैं।
कथन:
कोई लाल काला नहीं है।
सभी नीला काला हैं।
कोई नीला गुलाबी नहीं है।
निष्कर्ष:
1. कोई नीला लाल नहीं है।
2. कोई लाल गुलाबी नहीं है।

- Ans
- 1. केवल निष्कर्ष 1 अनुसरण करता है
 - 2. केवल निष्कर्ष 2 अनुसरण करता है
 - 3. निष्कर्ष 1 और 2 दोनों अनुसरण करते हैं
 - 4. न तो निष्कर्ष 1 और न ही 2 अनुसरण करता है

Question ID : 26433087133

Status : Answered

Chosen Option : 1

Q.12 निम्नलिखित में से कौन-सी संख्या दी गई श्रृंखला में प्रश्न-चिह्न (?) के स्थान पर आएगी?
5, 7, 12, 21, 35, 55, ?

Ans 1. 65

2. 82

3. 69

4. 72

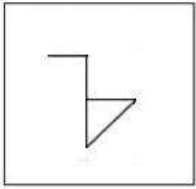
Question ID : 26433082006

Status : Answered

Chosen Option : 2

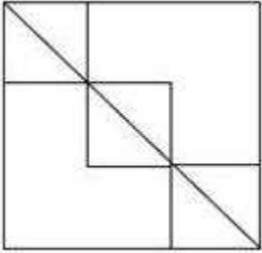
KD Job Updates

Q.13 उस विकल्प का चयन कीजिए, जिसमें प्रस्तुत चित्र अंतर्निहित है (घुमाना अनुमन्य नहीं है)

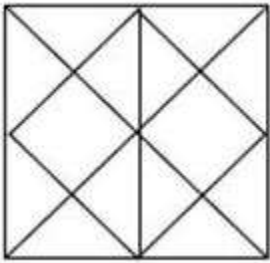


Ans

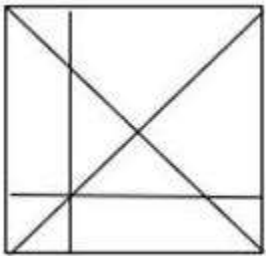
✗ 1.



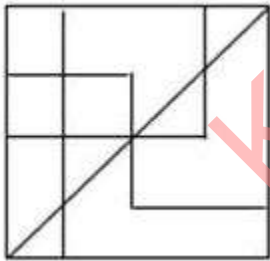
✗ 2.



✗ 3.



✓ 4.



Question ID : 26433076717

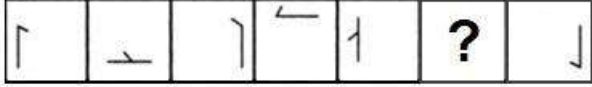
Status : Answered

Chosen Option : 4

Q.14

दिए गए विकल्पों में से उस आकृति का चयन करें जो निम्नलिखित श्रृंखला में

प्रश्नवाचक चिह्न (?) का स्थान ले सकती है।



Ans

✗ 1.



✓ 2.



✗ 3.



✗ 4.



Question ID : 26433080498

Status : Answered

Chosen Option : 2

Q.15 किस विकल्प में निम्नलिखित शब्दों का वह क्रम दिया गया है, जिस क्रम में वे अंग्रेजी शब्दकोश में आते हैं?

1. track
2. trace
3. trade
4. treasure
5. triangle

Ans ✓ 1. 2,1,3,4,5

✗ 2. 2,3,1,5,4

✗ 3. 3,2,1,4,5

✗ 4. 3,4,1,2,5

Question ID : 26433069321

Status : Answered

Chosen Option : 1

Q.16 एक निश्चित कूट भाषा में, 'CLOAKED' को '39' और 'FLANK' को '32' के रूप में लिखा जाता है। उसी कूट भाषा में 'FLOCKED' को किस प्रकार से लिखा जाएगा?

Ans ✗ 1. 48

✗ 2. 46

✗ 3. 42

✓ 4. 44

Question ID : 26433069473

Status : Answered

Chosen Option : 4

Q.17 कौन-सा अक्षर-समूह दी गई श्रृंखला में प्रश्नचिह्न (?) के स्थान पर आकर श्रृंखला को पूर्ण करेगा?
XERJ, THPK, ?, LNLM, HQJN

- Ans
- 1. RKNM
 - 2. QKLN
 - 3. PKNL
 - 4. SLKM

Question ID : 26433068578
Status : Answered
Chosen Option : 3

Q.18 निम्नलिखित में से कौन-सा अक्षर-समूह दी गई श्रृंखला में प्रश्नचिह्न (?) के स्थान पर आएगा?
BVFY, FRJU, JNNQ, ?, RFVI

- Ans
- 1. NJRM
 - 2. NJQM
 - 3. NKRN
 - 4. MJQM

Question ID : 26433076451
Status : Answered
Chosen Option : 1

Q.19 कीर्ति, सुमन, शुभ, कनक, परी, चारु, श्लोक और शिवी एक वर्गाकार मेज के चारों ओर मेज के केंद्र की ओर मुख करके बैठे हैं। उनमें से कुछ कोनों पर बैठे हैं, जबकि कुछ भुजाओं के ठीक मध्य में बैठे हैं। कीर्ति, शुभ के बाईं ओर तीसरे स्थान पर बैठी है। कीर्ति किसी एक कोने पर बैठी है। कनक, परी के दाईं ओर दूसरे स्थान पर बैठी है। परी किसी भी कोने पर नहीं बैठी है। परी, कीर्ति के ठीक बगल में नहीं बैठी है। सुमन, चारु के ठीक बगल में बैठी है। सुमन किसी भी भुजा के ठीक मध्य में नहीं बैठी है। सुमन और श्लोक के बीच किसी भी ओर से केवल तीन व्यक्ति बैठे हैं। इनमें से कौन किसी भी कोने पर नहीं बैठा/बैठी है?

- Ans
- 1. कीर्ति
 - 2. शिवी
 - 3. चारु
 - 4. श्लोक

Question ID : 26433082289
Status : Answered
Chosen Option : 3

Q.20 नीचे दिए गए समीकरण को गणितीय रूप से सही बनाने के लिए किन दो चिन्हों को परस्पर बदलना चाहिए?

$$63 \div 3 \times 21 - 15 + 12 = 6$$

- Ans
- 1. \div और \times
 - 2. \div और $-$
 - 3. \times और $-$
 - 4. $-$ और $+$

Question ID : 264330117547
Status : Answered
Chosen Option : 1

Q.1 राज्य के राज्यपाल के रूप में नियुक्त होने के लिए न्यूनतम आयु कितनी होनी चाहिए?

- Ans
- 1. 30 वर्ष
 - 2. 35 वर्ष
 - 3. 25 वर्ष
 - 4. 27 वर्ष

Question ID : 26433074912

Status : Answered

Chosen Option : 2

Q.2 भारतीय संविधान का कौन सा अनुच्छेद शिक्षा का अधिकार प्रदान करता है?

- Ans
- 1. 22
 - 2. 21A
 - 3. 23
 - 4. 20

Question ID : 264330115635

Status : Answered

Chosen Option : 2

Q.3 जल्लिकट्ट खेल किस देश से संबंधित है?

- Ans
- 1. स्पेन
 - 2. रोम
 - 3. भारत
 - 4. नेपाल

Question ID : 264330116287

Status : Answered

Chosen Option : 3

Q.4 महात्मा गांधी राष्ट्रीय ग्रामीण रोजगार गारंटी अधिनियम, (MGNREGA) भारत सरकार, _____ के अंतर्गत आता है।

- Ans
- 1. स्वास्थ्य एवं परिवार कल्याण मंत्रालय
 - 2. आवासन और शहरी कार्य मंत्रालय
 - 3. सामाजिक न्याय एवं अधिकारिता मंत्रालय
 - 4. ग्रामीण विकास मंत्रालय

Question ID : 264330116219

Status : Answered

Chosen Option : 4

Q.5 विश्व में हरित क्रांति के जनक कौन हैं?

- Ans
- 1. एडम स्मिथ
 - 2. नॉर्मन बोरलॉग
 - 3. कुरियन
 - 4. जवाहर लाल नेहरू

Question ID : 264330115414

Status : Answered

Chosen Option : 2

Q.6 वॉलीबॉल के खेल में एक समय में प्रत्येक पक्ष के कितने खिलाड़ियों को फील्ड में खेलने की अनुमति होती है?

- Ans
- 1. 5
 - 2. 6
 - 3. 7
 - 4. 8

Question ID : 264330115932

Status : Marked For Review

Chosen Option : 2

Q.7 कोली निम्नलिखित में से किस भारतीय राज्य का लोक नृत्य है?

- Ans
- 1. तमिलनाडु
 - 2. महाराष्ट्र
 - 3. पश्चिम बंगाल
 - 4. झारखंड

Question ID : 26433086712

Status : Marked For Review

Chosen Option : 3

Q.8 1290 से 1320 के दौरान किस वंश ने दिल्ली पर शासन किया?

- Ans
- 1. सैयद
 - 2. खलजी
 - 3. लोदी
 - 4. तुगलक

Question ID : 26433085224

Status : Answered

Chosen Option : 2

Q.9 बहादुर शाह जफर और उनके बेटों को ब्रिटिश अधिकारियों ने दिल्ली में _____ से गिरफ्तार किया था।

- Ans
- 1. हुमायूँ का मकबरा
 - 2. जामा मस्जिद
 - 3. सफदरजंग का मकबरा
 - 4. लाल किला

Question ID : 26433089894

Status : Marked For Review

Chosen Option : 4

Q.10 भारत के किस केंद्रीय मंत्री ने नवंबर 2022 में सबसे बड़े दक्षिण एशियाई फिल्म मार्केट-फिल्म बाजार का उद्घाटन किया?

- Ans
- 1. स्मृति ईरानी
 - 2. गजेन्द्र सिंह शेखावत
 - 3. निर्मला सीतारमण
 - 4. अनुराग सिंह ठाकुर

Question ID : 264330114952

Status : Marked For Review

Chosen Option : 3

Q.11 किसने स्वतंत्रता-पूर्व भारत में गरीबी रेखा की अवधारणा प्रस्तुत की?

- Ans
- 1. दादाभाई नौरोजी
 - 2. अमर्त्य सेन
 - 3. मनबेंद्र नाथ रॉय
 - 4. मैसूर नरसिम्हाचर श्रीनिवास

Question ID : 264330116073

Status : Answered

Chosen Option : 1

Q.12 इस्पात के निर्माण की प्रक्रिया में अंतिम चरण क्या है?

- Ans
- 1. पिग आयरन का उत्पादन
 - 2. इस्पात को आकार देना
 - 3. तरल इस्पात का उत्पादन
 - 4. ब्लास्ट फर्नेस में चूना पत्थर, कोक और लोहे को गर्म करना

Question ID : 264330115581

Status : Marked For Review

Chosen Option : 1

Q.13 स्तरीकरण में प्रजातियों का वितरण कैसे किया जाता है?

- Ans
- 1. विकर्णतः
 - 2. क्षैतिज
 - 3. केंद्रीकृत
 - 4. ऊर्ध्वतः

Question ID : 264330115249

Status : Answered

Chosen Option : 3

Q.14 मई 2022 में, भारत के विदेश सचिव कौन बने?

- Ans
- 1. हर्षवर्धन श्रृंगला
 - 2. विनय मोहन क्वात्रा
 - 3. यशवंत सिन्हा
 - 4. सुब्रह्मण्यम जयशंकर

Question ID : 264330115037

Status : Marked For Review

Chosen Option : 2

Q.15 _____ को संगीत नाटक अकादमी फेलो (अकादमी रत्न) से सम्मानित किया गया है।

- Ans
- 1. टंकेश्वर हजारिका बोरबयान
 - 2. जतिन गोस्वामी
 - 3. अनीता शर्मा
 - 4. माणिक बारबयान

Question ID : 264330115873

Status : Marked For Review

Chosen Option : 1

Q.16 निम्नलिखित में से किस तत्व की परमाणु संख्या 12 है?

- Ans
- 1. O
 - 2. He
 - 3. Mg
 - 4. Ca

Question ID : 264330115171

Status : Marked For Review

Chosen Option : 3

Q.17 निम्नलिखित में से कौन-सा, "S" आकार का महासागर है?

- Ans
- 1. प्रशांत महासागर
 - 2. अटलांटिक महासागर
 - 3. हिंद महासागर
 - 4. आर्कटिक महासागर

Question ID : 264330116005
Status : Marked For Review
Chosen Option : 2

Q.18 गणेश चतुर्थी हिंदू पंचांग के निम्नलिखित में से किस माह के चौथे दिन से शुरू होती है?

- Ans
- 1. भाद्रपद
 - 2. माघ
 - 3. कार्तिक
 - 4. अश्विन

Question ID : 26433094887
Status : Marked For Review
Chosen Option : 1

Q.19 भारत में हरित क्रांति की शुरुआत 1960 के दशक में _____ की उच्च उपज देने वाली किस्मों को शुरू करके की गई थी।

- Ans
- 1. चावल और गेहूं
 - 2. ज्वार और मक्का
 - 3. बाजरा और जूट
 - 4. जूट और कॉटन

Question ID : 264330116153
Status : Marked For Review
Chosen Option : 1

Q.20 राष्ट्रीय आय लेखा, एक निश्चित समय अवधि में देश की _____ गतिविधि के स्तर को मापने के लिए एक बहीखाता प्रणाली है।

- Ans
- 1. चिकित्सकीय
 - 2. लोकतांत्रिक
 - 3. आर्थिक
 - 4. रासायनिक

Question ID : 264330115334
Status : Answered
Chosen Option : 3

Q.1 निम्नलिखित में से कौन-सा सही नहीं है?

Ans 1. $8 \times 3 + 63 \div 9 - 6 = 25$

2. $42 \div 6 + (2 \times 5) \times 1 + 9 = 26$

3. $9 \times 4 + (12 + 2) - 30 \div 3 = 40$

4. $13 - 7 + 8 \times 9 + 63 \div 9 = 88$

Question ID : 26433076091

Status : Answered

Chosen Option : 4

Q.2 दो संख्याओं का महत्तम समापवर्तक 24 है और उनका लघुतम समापवर्त्य 2400 है। यदि इनमें से एक संख्या 180 है, तो दूसरी संख्या _____ है।

Ans 1. 338

2. 336

3. 334

4. 320

Question ID : 26433082351

Status : Answered

Chosen Option : 4

Q.3 ₹2,000 पर अंकित एक वस्तु को 20% और 10% की दो क्रमागत छूटों के साथ बेचा जाता है। विक्रय मूल्य ज्ञात कीजिए।

Ans 1. ₹1,640

2. ₹1,240

3. ₹1,440

4. ₹1,540

Question ID : 26433082613

Status : Answered

Chosen Option : 3

Q.4 आनंद 4 km/h की चाल से 20 km की दूरी तय करता है और शेष दूरी को 5 घंटे में वह 5 km/h की चाल से तय करता है। पूरी यात्रा के दौरान आनंद की औसत चाल (km/h में) क्या है?

Ans 1. 4.7

2. 4.5

3. 5

4. 4

Question ID : 26433082501

Status : Answered

Chosen Option : 2

Q.5 एक व्यापारी ₹50,000 में 50 कुर्सियाँ खरीदता है, लेकिन उनमें से 20 क्षतिग्रस्त हो जाती हैं। वह प्रत्येक क्षतिग्रस्त कुर्सी को सामान्य कुर्सी के विक्रय मूल्य के तीन चौथाई पर बेचने का फैसला करता है। सामान्य कुर्सी का विक्रय मूल्य क्या होना चाहिए, ताकि वह पूरे लेन-देन पर 35% का लाभ कमा सके?

- Ans
- 1. ₹5,000
 - 2. ₹1,125
 - 3. ₹6,750
 - 4. ₹1,500

Question ID : 26433075879

Status : Answered

Chosen Option : 1

Q.6 तीन घन, प्रत्येक की भुजा 5 cm है, एक के बाद दूसरा और दूसरे के बाद तीसरा के आधार पर एक-दूसरे से जोड़े गए हैं। परिणामी घनाभ का संपूर्ण पृष्ठीय क्षेत्रफल कितना है?

- Ans
- 1. 380 cm²
 - 2. 350 cm²
 - 3. 375 cm²
 - 4. 325 cm²

Question ID : 26433066368

Status : Answered

Chosen Option : 3

Q.7 सामान्था को 75 मील प्रति घंटे की चाल से स्थान X से स्थान Y तक जाने में 3 घंटे का समय लगता है। 30% बढ़ी हुई चाल से यात्रा करने पर उसे स्थान Y से स्थान Z तक जाने में 2 घंटे का समय लगता है। पूरी यात्रा के दौरान उसकी औसत चाल ज्ञात करें।

- Ans
- 1. 90 मील प्रति घंटा
 - 2. 84 मील प्रति घंटा
 - 3. 72 मील प्रति घंटा
 - 4. 65 मील प्रति घंटा

Question ID : 26433081551

Status : Answered

Chosen Option : 1

Q.8 अखिल, साहिल और अमित एक निश्चित कार्य को 64 दिनों में कर सकते हैं। जबकि अखिल और साहिल समान कार्य को 80 दिनों में कर सकते हैं, तो अमित उसी कार्य को कितने दिनों में कर सकता है?

- Ans
- 1. 330 दिन
 - 2. 380 दिन
 - 3. 320 दिन
 - 4. 340 दिन

Question ID : 264330116903

Status : Answered

Chosen Option : 3

Q.9 यदि a : b, 4 : 6 है और b : c, 10 : 11 है, तो c : a है :

Ans 1. 20 : 33

2. 33 : 20

3. 33 : 21

4. 21 : 33

Question ID : 26433076305

Status : Answered

Chosen Option : 2

Q.10 एक निश्चित समयावधि के बाद, एक बैंक में निवेश की गई Rs.24,000 की राशि Rs.26,460 हो जाएगी, जब चक्रवृद्धि ब्याज की दर 5% वार्षिक है, जो वार्षिक रूप से चक्रवृद्धि है। निवेश की गई राशि कितने महीने में Rs.26,460 हो जाएगी?

Ans 1. 12

2. 36

3. 24

4. 30

Question ID : 26433075073

Status : Answered

Chosen Option : 3

Q.11 एक शहर की वर्तमान जनसंख्या 92,61,000 है। यदि यह 5% वार्षिक दर से बढ़ रही है, तो 3 वर्ष पहले इसकी जनसंख्या कितनी थी।

Ans 1. 60,00,000

2. 40,00,000

3. 80,00,000

4. 20,00,000

Question ID : 26433073131

Status : Answered

Chosen Option : 3

Q.12 एक दूसरे से 100 km की दूरी पर स्थित दो स्टेशनों से दो ट्रेनें एक ही समय पर निकलकर एक दूसरे की ओर चलती हैं, ट्रेनें एक स्टेशन से 70 km की दूरी पर एक दूसरे को पार करती हैं। उनकी चाल का अनुपात क्या है?

Ans 1. 5 : 7

2. 7 : 3

3. 4 : 5

4. 3 : 4

Question ID : 26433073037

Status : Answered

Chosen Option : 2

Q.13 एक डीलर अपने माल को क्रय मूल्य पर बेचने का दावा करता है। यदि वह वजन में गड़बड़ी करके $5\frac{5}{19}\%$ का लाभ प्राप्त करता है, तो 1 kg वजन में की जाने वाली गड़बड़ी का पता लगाएं।

- Ans
- 1. 60 g
 - 2. 45 g
 - 3. 50 g
 - 4. 55 g

Question ID : 26433081567
Status : Answered
Chosen Option : 3

Q.14 मोहन और सोहन एक ही समय पर बिंदु P और Q से एक दूसरे की ओर दौड़ना शुरू करते हैं। मोहन और सोहन की चाल क्रमशः 24 km/h और 18 km/h है। यदि वे 10 मिनट के बाद मिलते हैं, तो P और Q के बीच की दूरी क्या है?

- Ans
- 1. 9 km
 - 2. 8 km
 - 3. 10 km
 - 4. 7 km

Question ID : 26433075698
Status : Answered
Chosen Option : 4

Q.15 कोविड -19 महामारी के प्रकोप के कारण एक गाँव की जनसंख्या 15,750 से घटकर 14,490 हो गई। उस गाँव की जनसंख्या में कितने प्रतिशत की कमी हुई?

- Ans
- 1. 6%
 - 2. 9%
 - 3. 8%
 - 4. 7%

Question ID : 26433080291
Status : Answered
Chosen Option : 3

Q.16 A, B से दोगुना कुशल है और एक कार्य को पूरा करने में B से 45 दिन कम लेता है। उन दिनों की संख्या ज्ञात कीजिए जिनमें वे एक साथ कार्य को पूरा कर सकते हैं।

- Ans
- 1. 32
 - 2. 36
 - 3. 30
 - 4. 38

Question ID : 26433075396
Status : Answered
Chosen Option : 3

Q.17 जैक और जॉन के धन का अनुपात 7 : 13 है और जॉन और जोनास के धन का अनुपात 9 : 11 है। यदि जैक के पास ₹6,300 हो, तो जोनास के पास कितना धन है?

- Ans
- 1. ₹14,100
 - 2. ₹14,300
 - 3. ₹14,200
 - 4. ₹14,500

Question ID : 26433080175

Status : Answered

Chosen Option : 2

Q.18 एक खुदरा विक्रेता ₹86,000 के अंकित मूल्य वाले एक फूड प्रोसेसर को बेचने के लिए उस पर 40% की छूट की घोषणा करता है। फूड प्रोसेसर का क्रय मूल्य, अंकित मूल्य से 60% कम है। यदि खरीदार खुदरा विक्रेता के स्टोर का अपना सदस्यता कार्ड दिखाता है तो उसे 10% की अतिरिक्त छूट मिलती है। सदस्यता कार्ड योजना के साथ खुदरा विक्रेता का लाभ सदस्यता कार्ड योजना के बिना खुदरा विक्रेता के लाभ का कितना प्रतिशत है?

- Ans
- 1. 73%
 - 2. 82%
 - 3. 67%
 - 4. 70%

Question ID : 26433061892

Status : Answered

Chosen Option : 4

Q.19 एक व्यक्ति का साप्ताहिक वेतन 1200 रुपए था, लेकिन अब वह 1800 रुपए कमाता है। व्यक्ति के वेतन में कितने प्रतिशत वृद्धि हुई है?

- Ans
- 1. 30 प्रतिशत
 - 2. 50 प्रतिशत
 - 3. 20 प्रतिशत
 - 4. 80 प्रतिशत

Question ID : 264330116823

Status : Answered

Chosen Option : 2

Q.20 क्रमशः 8 cm, 1 cm और 6 cm भुजा वाले तीन ठोस घनों को पिघलाकर एक नया घन बनाया जाता है।
नए घन का सबसे लंबा विकर्ण ज्ञात कीजिए।

- Ans
- 1. $7\sqrt{2}$ cm
 - 2. $7\sqrt{3}$ cm
 - 3. $9\sqrt{3}$ cm
 - 4. $9\sqrt{2}$ cm

Question ID : 26433083063

Status : Answered

Chosen Option : 3

Section : Part-D-English

Q.1 Choose the sentence that is in simple past tense.

- A. My uncle broke his promise to keep up with the trend of being healthy.
- B. My uncle had been breaking his promise to keep up with the trend of being healthy.
- C. My uncle had broken his promise to keep up with the trend of being healthy.
- D. My uncle was breaking his promise to keep up with the trend of being healthy.

- Ans
- 1. A
 - 2. B
 - 3. D
 - 4. C

Question ID : 26433096222

Status : Not Answered

Chosen Option : --

Q.2 Select the most appropriate meaning of the given idiom.

Raining cats and dogs

- Ans
- 1. To escape from the situation
 - 2. Cats and dogs getting wet in rain
 - 3. At the exact time
 - 4. A very heavy downpour

Question ID : 26433073709

Status : Not Answered

Chosen Option : --

Q.3 Select the most appropriate synonym of the underlined word in the given sentence.

It is of paramount importance that you read the instructions before attempting the test.

- Ans
- 1. Remind
 - 2. Rehearse
 - 3. Rephrase
 - 4. Central

Question ID : 26433087920
Status : Not Answered
Chosen Option : --

Q.4 The sentence given below has one misspelt word. Spot the INCORRECTLY spelt word and select its correct spelling.

She comes from an illustrios political family.

- Ans
- 1. Illustreous
 - 2. Ilustrious
 - 3. Illustrious
 - 4. Illustreous

Question ID : 26433073552
Status : Not Answered
Chosen Option : --

Q.5 Select the most appropriate meaning of the given idiom.

Level playing field

- Ans
- 1. Forgetting conflicts
 - 2. Lack of intelligence
 - 3. A fair competition
 - 4. Avoiding differences

Question ID : 26433073719
Status : Not Answered
Chosen Option : --

Q.6 Select the most appropriate ANTONYM of the given word.
Scintillating

- Ans
- 1. Dark
 - 2. Amazing
 - 3. Bright
 - 4. Wonderful

Question ID : 26433086490
Status : Not Answered
Chosen Option : --

Q.7 Select the option that can be used as a one-word substitute for the given group of words.

A perfect society in which people work well with each other and are happy

- Ans 1. Homeland
 2. Utopia
 3. Gala land
 4. Dystopia

Question ID : 26433089377

Status : Not Answered

Chosen Option : --

Q.8 Select the most appropriate synonym of the word given below to fill in the blank in the following sentence.

Imminent

The king was changing his hiding place every now and then because of _____ danger to his life.

- Ans 1. losing
 2. participating
 3. happening
 4. approaching

Question ID : 26433084778

Status : Not Answered

Chosen Option : --

Q.9 Select the most appropriate ANTONYM of the given word.

Austere

- Ans 1. Gruff
 2. Genial
 3. Stiff
 4. Affordable

Question ID : 26433088323

Status : Not Answered

Chosen Option : --

Q.10 Select the most appropriate option to substitute the underlined segment in the given sentence.

The lizard moves from one whole to another and eats insects hidden in the hole.

- Ans 1. moves from one to another and eats
 2. moves from one hole to another but eats
 3. moves from one hole to another and eats
 4. moves from one whole to another and eat

Question ID : 264330100292

Status : Not Answered

Chosen Option : --

Q.11 Select the most appropriate option to fill in the blank.

You might be wrong, you can't always be _____.

- Ans
- 1. write
 - 2. riot
 - 3. rite
 - 4. right

Question ID : 26433084615
Status : Not Answered
Chosen Option : --

Q.12 Select the most appropriate synonym of the given word.

Anger

- Ans
- 1. Frenzy
 - 2. Dismay
 - 3. Delight
 - 4. Fury

Question ID : 26433086370
Status : Not Answered
Chosen Option : --

Q.13 Select the most appropriate option to fill in the blank.

Anne's eye _____ is very good for someone of her age.

- Ans
- 1. side
 - 2. site
 - 3. cite
 - 4. sight

Question ID : 26433090395
Status : Not Answered
Chosen Option : --

Q.14 Select the most appropriate option to substitute the underlined segment in the given sentence.

Dowry completely violates women's rights and denies them similar opportunities in society.

- Ans
- 1. an accurate place
 - 2. an appropriate desire
 - 3. an equal standing
 - 4. an increasing honour

Question ID : 26433089833
Status : Not Answered
Chosen Option : --

Q.15 Identify the correctly spelt sentence.

- Ans
- 1. My favourite subject is Mathematecs.
 - 2. My favourite subject is Matematiks.
 - 3. My favourite subject is Mathematics.
 - 4. My favourite subject is Mathimatics.

Question ID : 26433072835

Status : Not Answered

Chosen Option : --

Comprehension:

In the following passage, some words have been deleted. Read the passage carefully and select the most appropriate option to fill in each blank.

Cancer is a disease in which some of the body's cells grow (1)_____ and spread to other parts of the body. Cancer can start (2)_____ anywhere in the human body, which is made up of trillions of cells. Normally, human cells grow and multiply (through a process called cell division) to (3)_____ new cells as the body needs them. When cells grow old or become damaged, they die, and new cells take their place. Sometimes, this orderly process (4)_____ down, and abnormal or damaged cells grow and multiply when they shouldn't. These cells may form tumours, which are lumps of tissue. Tumours can be cancerous or (5)_____.

SubQuestion No : 16

Q.16 Select the most appropriate option to fill in blank 1.

- Ans
- 1. unwontedly
 - 2. inversely
 - 3. inadequately
 - 4. uncontrollably

Question ID : 26433090513

Status : Not Answered

Chosen Option : --

Comprehension:

In the following passage, some words have been deleted. Read the passage carefully and select the most appropriate option to fill in each blank.

Cancer is a disease in which some of the body's cells grow (1)_____ and spread to other parts of the body. Cancer can start (2)_____ anywhere in the human body, which is made up of trillions of cells. Normally, human cells grow and multiply (through a process called cell division) to (3)_____ new cells as the body needs them. When cells grow old or become damaged, they die, and new cells take their place. Sometimes, this orderly process (4)_____ down, and abnormal or damaged cells grow and multiply when they shouldn't. These cells may form tumours, which are lumps of tissue. Tumours can be cancerous or (5)_____.

SubQuestion No : 17

Q.17 Select the most appropriate option to fill in blank 2.

- Ans
- 1. just
 - 2. almost
 - 3. simply
 - 4. barely

Question ID : 26433090514

Status : Not Answered

Chosen Option : --

Comprehension:

In the following passage, some words have been deleted. Read the passage carefully and select the most appropriate option to fill in each blank.

Cancer is a disease in which some of the body's cells grow (1)_____ and spread to other parts of the body. Cancer can start (2)_____ anywhere in the human body, which is made up of trillions of cells. Normally, human cells grow and multiply (through a process called cell division) to (3)_____ new cells as the body needs them. When cells grow old or become damaged, they die, and new cells take their place. Sometimes, this orderly process (4)_____ down, and abnormal or damaged cells grow and multiply when they shouldn't. These cells may form tumours, which are lumps of tissue. Tumours can be cancerous or (5)_____.

SubQuestion No : 18

Q.18 Select the most appropriate option to fill in blank 3.

- Ans** 1. form
 2. shape
 3. build
 4. formulate

Question ID : 26433090515

Status : Not Answered

Chosen Option : --

Comprehension:

In the following passage, some words have been deleted. Read the passage carefully and select the most appropriate option to fill in each blank.

Cancer is a disease in which some of the body's cells grow (1)_____ and spread to other parts of the body. Cancer can start (2)_____ anywhere in the human body, which is made up of trillions of cells. Normally, human cells grow and multiply (through a process called cell division) to (3)_____ new cells as the body needs them. When cells grow old or become damaged, they die, and new cells take their place. Sometimes, this orderly process (4)_____ down, and abnormal or damaged cells grow and multiply when they shouldn't. These cells may form tumours, which are lumps of tissue. Tumours can be cancerous or (5)_____.

SubQuestion No : 19

Q.19 Select the most appropriate option to fill in blank 4.

- Ans** 1. slows
 2. powers
 3. breaks
 4. blows

Question ID : 26433090516

Status : Not Answered

Chosen Option : --

Comprehension:

In the following passage, some words have been deleted. Read the passage carefully and select the most appropriate option to fill in each blank.

Cancer is a disease in which some of the body's cells grow (1)_____ and spread to other parts of the body. Cancer can start (2)_____ anywhere in the human body, which is made up of trillions of cells. Normally, human cells grow and multiply (through a process called cell division) to (3)_____ new cells as the body needs them. When cells grow old or become damaged, they die, and new cells take their place. Sometimes, this orderly process (4)_____ down, and abnormal or damaged cells grow and multiply when they shouldn't. These cells may form tumours, which are lumps of tissue. Tumours can be cancerous or (5)_____.

SubQuestion No : 20

Q.20 Select the most appropriate option to fill in blank 5.

- Ans 1. malignant
 2. benign
 3. benevolent
 4. mild

Question ID : 26433090517

Status : Not Answered

Chosen Option : --

Section : Part-D-Hindi

Q.1 निम्न वाक्य में त्रुटि पहचानकर वाक्य शुद्ध कीजिए।
चतुर से काम करे तो सफलता अवश्य मिलती है।

- Ans 1. चतुर होकर काम करने से सफल अवश्य मिलता है।
 2. चतुरी से काम करे तो सफलता अवश्य मिलती है।
 3. चतुराई से काम करने से सफलता अवश्य मिलती है।
 4. चतुराई से काम करने से सफल अवश्य मिलता है।

Question ID : 26433063028

Status : Answered

Chosen Option : 3

Q.2 तपस्वी ने बहुत तपने के पश्चात यह सिद्धि प्राप्त की है।
वाक्य के रेखांकित शब्द के स्थान पर भाववाचक संज्ञा शब्द होगा-

- Ans 1. तपोवन
 2. तपस्या
 3. तपन
 4. तपभूमि

Question ID : 26433062855

Status : Answered

Chosen Option : 2

Q.3 विकल्पों में दिए गए किस वाक्य में निम्न शब्द के सही पर्यायवाची शब्द का प्रयोग किया गया है?
पंडित

- Ans
- 1. मनीशी मेरे द्वार पर आये हैं।
 - 2. मनिषी मेरे द्वार पर आये हैं।
 - 3. मनीषी मेरे द्वार पर आये हैं।
 - 4. मनीसी ज्ञान से पूर्ण हैं।

Question ID : 26433091217

Status : Answered

Chosen Option : 2

Q.4 निम्नलिखित मुहावरे के उपयुक्त अर्थ का चयन विकल्पों में से कीजिए।
धज्जियां उड़ाना

- Ans
- 1. चम्पत हो जाना
 - 2. नष्ट – भ्रष्ट करना
 - 3. प्रयास करना
 - 4. क्रोध करना

Question ID : 26433070001

Status : Answered

Chosen Option : 2

Q.5 इस साल व्यापार में बहुत लाभ हुआ।
उपरोक्त वाक्य में रेखांकित शब्द के विलोम शब्द का चयन विकल्पों में से कीजिए।

- Ans
- 1. हानि
 - 2. खतरा
 - 3. तकादा
 - 4. फायदा

Question ID : 26433079745

Status : Answered

Chosen Option : 1

Q.6 निम्नलिखित वाक्यांश के लिए सार्थक शब्द क्या होगा?
जो व्यक्ति दूर की बात सोचता है

- Ans
- 1. दूरबीन
 - 2. दूरदृष्टि
 - 3. दूरदर्शी
 - 4. दूरभाषी

Question ID : 26433069984

Status : Answered

Chosen Option : 3

Q.7 निम्नलिखित अर्थ को व्यक्त करने वाले मुहावरे का चयन विकल्पों में से कीजिए।
बहुत खुश होना

- Ans
- 1. मुँह में तिनका लेना
 - 2. मूसलों ढोल बजाना
 - 3. मैदान हाथ आना
 - 4. मुँह पर नाक न होना

Question ID : 26433070014
Status : Answered
Chosen Option : 2

Q.8 निम्न में से कौन-सा शब्द 'जानकी' का पर्यायवाची नहीं है?

- Ans
- 1. सूर्यसुता
 - 2. वैदेही
 - 3. जनकसुता
 - 4. सीता

Question ID : 26433066897
Status : Answered
Chosen Option : 1

Q.9 'शहर का आधा भाग _____ चुका है।' इस वाक्य में रिक्त स्थान की पूर्ति उपयुक्त वाक्य-खंड द्वारा कीजिए।

- Ans
- 1. जल में निमग्न हो
 - 2. जल से मग्न हो
 - 3. जलमग्न हो
 - 4. पानी में तैर रहा हो

Question ID : 26433080895
Status : Answered
Chosen Option : 3

Q.10 निम्नलिखित वाक्य में रेखांकित शब्द के विलोम शब्द का प्रयोग करके रिक्त स्थान की पूर्ति कीजिए।
यदि उन्नति उचित दिशा में न हो तो वह _____ का कारण बनती है।

- Ans
- 1. अवनति
 - 2. दुराग्रह
 - 3. अपमान
 - 4. अउन्नति

Question ID : 26433091343
Status : Answered
Chosen Option : 1

Q.11 दिए गए वाक्यांश के लिए सार्थक शब्द बताइए।
जो काम से जी चुराता हो

- Ans
- 1. चालाक
 - 2. निकम्मा
 - 3. कामचोर
 - 4. कमजोर

Question ID : 26433062590
Status : Answered
Chosen Option : 3

Q.12 निम्नलिखित वाक्य के किस शब्द में अशुद्धि है?
उनकी दृष्टि शून्य आकाश की ओर थी।

- Ans
- 1. आकाश
 - 2. उनकी
 - 3. दृष्टि
 - 4. शून्य

Question ID : 26433066772
Status : Answered
Chosen Option : 3

Q.13 निम्नलिखित में से शुद्ध वाक्य कौन सा है?

- Ans
- 1. काली गाय अच्छी होती है।
 - 2. काली गाय अच्छा होती है।
 - 3. काली गाय अच्छी होता है।
 - 4. काला गाय अच्छी होती है।

Question ID : 26433066834
Status : Answered
Chosen Option : 1

Q.14 लोग रंगीन चाँदनी में नौका विहार का आनंद ले रहे थे।
उपरोक्त वाक्य में रेखांकित शब्द के स्थान पर सर्वोचित शब्द का चयन विकल्पों में से कीजिए।

- Ans
- 1. धवल
 - 2. पीली
 - 3. सुनहरी
 - 4. रोशन

Question ID : 26433065692
Status : Answered
Chosen Option : 1

Q.15 नीचे दिए शब्द के लिए उचित वाक्यांश दिए गए विकल्पों में से चुनिए।
गोचर

- Ans
- 1. गाय को चराने वाला
 - 2. जिसका ज्ञान इंद्रियों द्वारा न हो सके
 - 3. जो गाय के साथ चलता है
 - 4. जिसका ज्ञान इंद्रियों द्वारा हो सके

Question ID : 26433079209

Status : Answered

Chosen Option : 1

Comprehension:

नीचे पूछे गए प्रश्न संख्या 1-5 के उत्तर दिए गए गद्यांश के आधार पर दीजिए।
विदेशी भाषाओं या दूसरों की भाषाओं को पढ़ने से पहले अपनी राष्ट्रभाषा और (1) _____ का ज्ञान नितान्त आवश्यक है। अपनी भाषा में हृदय बोलता है, इससे माँ की ममता, राष्ट्रीय संबंधों का माधुर्य और अपने को जानने-पहचानने की सरलता रहती है। अपनी भाषा में अपनापन रहता है। इसके लिए हमें विशेष श्रम नहीं करना पड़ता, व्यर्थ की (2) _____ और समय की बर्बादी नहीं करनी पड़ती। हिंदी हमारी मातृभाषा है। इसलिए इसके व्यवहार में हमें जितनी सहजता और सुविधा का बोध होता है, उतनी सहजता और सुविधा का बोध विदेशी भाषाओं में नहीं होता। कारण यह है कि हिंदी हम घर – बाहर सभी जगह बोलते हैं, इसी में हम अपने मन में बातें सोचते हैं, किसी (3) _____ भाषा में नहीं। इसीलिए भाषा हर तरह की शिक्षा का माध्यम होती है, चाहे वह अन्य किसी भाषा की शिक्षा हो या कला कारीगरों की। अगर हम कोई विदेशी भाषा सीखते हैं तो अपनी मातृभाषा के माध्यम से ही। इसलिए अब हम किसी दूसरी सीखी हुई भाषा को बोलते हैं, तो मातृभाषा में मन में जो हम सोचते हैं, वह उसी का (4) _____ होता है। इसलिए इसके बिना हम रह नहीं सकते। यह हमारे दैनिक जीवन के साथ (5) _____ है। जैसे – दूध में पानी घुला होता है उसी तरह मातृभाषा में भी हमारी माँ का संस्कार, उसका प्यार और मिठास है। अतः अपनी भाषा सर्वोपरि है। भाषाओं के अध्ययन में इसी का सबसे ऊँचा स्थान है। यही कारण है कि सभी सभ्य देशों में शिक्षा मातृभाषा के माध्यम से दी जाती है।

SubQuestion No : 16

Q.16 विकल्पों में से उपयुक्त शब्द का चयन कर रिक्त स्थान (1) की पूर्ति कीजिए।

- Ans
- 1. कूटभाषा
 - 2. भाषा
 - 3. अपभाषा
 - 4. मातृभाषा

Question ID : 26433079177

Status : Answered

Chosen Option : 4

Comprehension:

नीचे पूछे गए प्रश्न संख्या 1-5 के उत्तर दिए गए गद्यांश के आधार पर दीजिए।
विदेशी भाषाओं या दूसरों की भाषाओं को पढ़ने से पहले अपनी राष्ट्रभाषा और (1) _____ का ज्ञान नितांत आवश्यक है। अपनी भाषा में हृदय बोलता है, इससे माँ की ममता, राष्ट्रीय संबंधों का माधुर्य और अपने को जानने-पहचानने की सरलता रहती है। अपनी भाषा में अपनापन रहता है। इसके लिए हमें विशेष श्रम नहीं करना पड़ता, व्यर्थ की (2) _____ और समय की बर्बादी नहीं करनी पड़ती। हिंदी हमारी मातृभाषा है। इसलिए इसके व्यवहार में हमें जितनी सहजता और सुविधा का बोध होता है, उतनी सहजता और सुविधा का बोध विदेशी भाषाओं में नहीं होता। कारण यह है कि हिंदी हम घर – बाहर सभी जगह बोलते हैं, इसी में हम अपने मन में बातें सोचते हैं, किसी (3) _____ भाषा में नहीं। इसीलिए भाषा हर तरह की शिक्षा का माध्यम होती है, चाहे वह अन्य किसी भाषा की शिक्षा हो या कला कारीगरों की। अगर हम कोई विदेशी भाषा सीखते हैं तो अपनी मातृभाषा के माध्यम से ही। इसलिए अब हम किसी दूसरी सीखी हुई भाषा को बोलते हैं, तो मातृभाषा में मन में जो हम सोचते हैं, वह उसी का (4) _____ होता है। इसलिए इसके बिना हम रह नहीं सकते। यह हमारे दैनिक जीवन के साथ (5) _____ है। जैसे – दूध में पानी घुला होता है उसी तरह मातृभाषा में भी हमारी माँ का संस्कार, उसका प्यार और मिठास है। अतः अपनी भाषा सर्वोपरि है। भाषाओं के अध्ययन में इसी का सबसे ऊँचा स्थान है। यही कारण है कि सभी सभ्य देशों में शिक्षा मातृभाषा के माध्यम से दी जाती है।

SubQuestion No : 17

Q.17 निम्नलिखित विकल्पों में से स्त्रीलिंग शब्द का चयन कर रिक्त स्थान (2) की पूर्ति कीजिए।

- Ans 1. माथा घिसना
 2. माथा टेकना
 3. माथा पिट्टन
 4. माथापच्ची

Question ID : 26433079178

Status : Answered

Chosen Option : 4

Comprehension:

नीचे पूछे गए प्रश्न संख्या 1-5 के उत्तर दिए गए गद्यांश के आधार पर दीजिए।
विदेशी भाषाओं या दूसरों की भाषाओं को पढ़ने से पहले अपनी राष्ट्रभाषा और (1) _____ का ज्ञान नितांत आवश्यक है। अपनी भाषा में हृदय बोलता है, इससे माँ की ममता, राष्ट्रीय संबंधों का माधुर्य और अपने को जानने-पहचानने की सरलता रहती है। अपनी भाषा में अपनापन रहता है। इसके लिए हमें विशेष श्रम नहीं करना पड़ता, व्यर्थ की (2) _____ और समय की बर्बादी नहीं करनी पड़ती। हिंदी हमारी मातृभाषा है। इसलिए इसके व्यवहार में हमें जितनी सहजता और सुविधा का बोध होता है, उतनी सहजता और सुविधा का बोध विदेशी भाषाओं में नहीं होता। कारण यह है कि हिंदी हम घर – बाहर सभी जगह बोलते हैं, इसी में हम अपने मन में बातें सोचते हैं, किसी (3) _____ भाषा में नहीं। इसीलिए भाषा हर तरह की शिक्षा का माध्यम होती है, चाहे वह अन्य किसी भाषा की शिक्षा हो या कला कारीगरों की। अगर हम कोई विदेशी भाषा सीखते हैं तो अपनी मातृभाषा के माध्यम से ही। इसलिए अब हम किसी दूसरी सीखी हुई भाषा को बोलते हैं, तो मातृभाषा में मन में जो हम सोचते हैं, वह उसी का (4) _____ होता है। इसलिए इसके बिना हम रह नहीं सकते। यह हमारे दैनिक जीवन के साथ (5) _____ है। जैसे – दूध में पानी घुला होता है उसी तरह मातृभाषा में भी हमारी माँ का संस्कार, उसका प्यार और मिठास है। अतः अपनी भाषा सर्वोपरि है। भाषाओं के अध्ययन में इसी का सबसे ऊँचा स्थान है। यही कारण है कि सभी सभ्य देशों में शिक्षा मातृभाषा के माध्यम से दी जाती है।

SubQuestion No : 18

Q.18 'स्वदेशी' के विलोम शब्द से रिक्त स्थान (3) की पूर्ति कीजिए।

- Ans 1. देशी
 2. विदेशी
 3. ग्रामीण
 4. शहरी

Question ID : 26433079179

Status : Answered

Chosen Option : 2

Comprehension:

नीचे पूछे गए प्रश्न संख्या 1-5 के उत्तर दिए गए गद्यांश के आधार पर दीजिए।
विदेशी भाषाओं या दूसरों की भाषाओं को पढ़ने से पहले अपनी राष्ट्रभाषा और (1) _____ का ज्ञान नितांत आवश्यक है। अपनी भाषा में हृदय बोलता है, इससे माँ की ममता, राष्ट्रीय संबंधों का माधुर्य और अपने को जानने-पहचानने की सरलता रहती है। अपनी भाषा में अपनापन रहता है। इसके लिए हमें विशेष श्रम नहीं करना पड़ता, व्यर्थ की (2) _____ और समय की बर्बादी नहीं करनी पड़ती। हिंदी हमारी मातृभाषा है। इसलिए इसके व्यवहार में हमें जितनी सहजता और सुविधा का बोध होता है, उतनी सहजता और सुविधा का बोध विदेशी भाषाओं में नहीं होता। कारण यह है कि हिंदी हम घर – बाहर सभी जगह बोलते हैं, इसी में हम अपने मन में बातें सोचते हैं, किसी (3) _____ भाषा में नहीं। इसीलिए भाषा हर तरह की शिक्षा का माध्यम होती है, चाहे वह अन्य किसी भाषा की शिक्षा हो या कला कारीगरों की। अगर हम कोई विदेशी भाषा सीखते हैं तो अपनी मातृभाषा के माध्यम से ही। इसलिए अब हम किसी दूसरी सीखी हुई भाषा को बोलते हैं, तो मातृभाषा में मन में जो हम सोचते हैं, वह उसी का (4) _____ होता है। इसलिए इसके बिना हम रह नहीं सकते। यह हमारे दैनिक जीवन के साथ (5) _____ है। जैसे – दूध में पानी घुला होता है उसी तरह मातृभाषा में भी हमारी माँ का संस्कार, उसका प्यार और मिठास है। अतः अपनी भाषा सर्वोपरि है। भाषाओं के अध्ययन में इसी का सबसे ऊँचा स्थान है। यही कारण है कि सभी सभ्य देशों में शिक्षा मातृभाषा के माध्यम से दी जाती है।

SubQuestion No : 19

Q.19 'किसी के कहने के बाद कहना' इस वाक्यांश के लिए उपयोग किए जाने वाले एक शब्द से रिक्त स्थान (4) की पूर्ति कीजिए।

- Ans 1. आलेखन
 2. अनुवाद
 3. संक्षेपण
 4. टिप्पण

Question ID : 26433079180

Status : Answered

Chosen Option : 2

Comprehension:

नीचे पूछे गए प्रश्न संख्या 1-5 के उत्तर दिए गए गद्यांश के आधार पर दीजिए।
विदेशी भाषाओं या दूसरों की भाषाओं को पढ़ने से पहले अपनी राष्ट्रभाषा और (1) _____ का ज्ञान नितांत आवश्यक है। अपनी भाषा में हृदय बोलता है, इससे माँ की ममता, राष्ट्रीय संबंधों का माधुर्य और अपने को जानने-पहचानने की सरलता रहती है। अपनी भाषा में अपनापन रहता है। इसके लिए हमें विशेष श्रम नहीं करना पड़ता, व्यर्थ की (2) _____ और समय की बर्बादी नहीं करनी पड़ती। हिंदी हमारी मातृभाषा है। इसलिए इसके व्यवहार में हमें जितनी सहजता और सुविधा का बोध होता है, उतनी सहजता और सुविधा का बोध विदेशी भाषाओं में नहीं होता। कारण यह है कि हिंदी हम घर – बाहर सभी जगह बोलते हैं, इसी में हम अपने मन में बातें सोचते हैं, किसी (3) _____ भाषा में नहीं। इसीलिए भाषा हर तरह की शिक्षा का माध्यम होती है, चाहे वह अन्य किसी भाषा की शिक्षा हो या कला कारीगरों की। अगर हम कोई विदेशी भाषा सीखते हैं तो अपनी मातृभाषा के माध्यम से ही। इसलिए अब हम किसी दूसरी सीखी हुई भाषा को बोलते हैं, तो मातृभाषा में मन में जो हम सोचते हैं, वह उसी का (4) _____ होता है। इसलिए इसके बिना हम रह नहीं सकते। यह हमारे दैनिक जीवन के साथ (5) _____ है। जैसे – दूध में पानी घुला होता है उसी तरह मातृभाषा में भी हमारी माँ का संस्कार, उसका प्यार और मिठास है। अतः अपनी भाषा सर्वोपरि है। भाषाओं के अध्ययन में इसी का सबसे ऊँचा स्थान है। यही कारण है कि सभी सभ्य देशों में शिक्षा मातृभाषा के माध्यम से दी जाती है।

SubQuestion No : 20

Q.20 विकल्पों में से उपयुक्त शब्द का चयन कर रिक्तस्थान (5) की पूर्ति कीजिए।

- Ans 1. घुली - मिली
 2. मिली - जुली
 3. चुलबुली
 4. हिली - डुली

Question ID : 26433079181

Status : Answered

Chosen Option : 1

Constable GD in CAPFs SSF Rifleman GD in Assam Rifles and Sepoy in NCB Examination 2022

Roll Number	KD Job Updates
Candidate Name	KD Job Updates
Venue Name	ION DIGITAL ZONE IDZ TUPUDANA
Exam Date	17/01/2023
Exam Time	11:45 AM - 12:45 PM
Subject	Constable GD Examination 2022

Section : Part-A-General Intelligence and Reasoning

Q.1 विकल्पों में दिए गए गणितीय चिह्नों का कौन सा संयोजन निम्न समीकरण में * चिह्नों के स्थान पर क्रमिक रूप से आकर समीकरण को संतुलित करेगा?
 $200 * 2 * 10 * 8 * 40 * 20$

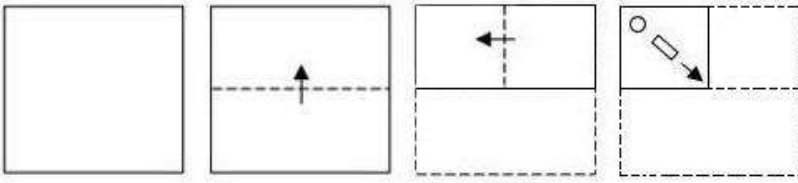
- Ans
- 1. $\times, =, \div, +, -$
 - 2. $\times, +, =, \div, -$
 - 3. $\div, =, \times, +, -$
 - 4. $-, +, \div, =, \times$

Question ID : 26433094997

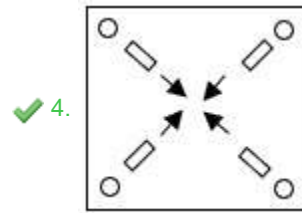
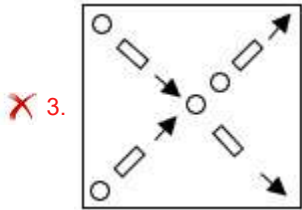
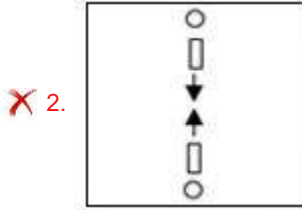
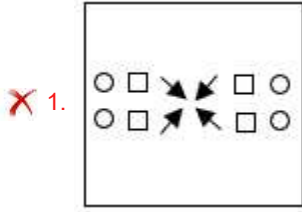
Status : Answered

Chosen Option : 3

Q.2 एक कागज को नीचे दिखाए अनुसार मोड़ा और काटा गया है। कागज की तह खुलने पर यह कैसा दिखाई देगा?



Ans



KD Job Updates

Question ID : 26433090958
 Status : Answered
 Chosen Option : 4

Q.3 'A + B' का अर्थ है 'A, B की पुत्री है'
 'A - B' का अर्थ है 'A, B का पति है'
 'A × B' का अर्थ है 'A, B की माता है'
 'A ÷ B' का अर्थ है 'A, B का भाई है'
 यदि $D + E + F - G \times H \div I - J$ है, तो निम्न में से कौन सा कथन सही नहीं है?

- Ans
- ✓ 1. D, I की बहन है
 - ✗ 2. E, I की बहन है
 - ✗ 3. E, H की बहन है
 - ✗ 4. E, G की पुत्री है

Question ID : 26433090049
 Status : Not Answered
 Chosen Option : --

Q.4 निम्नलिखित में से कौन-सी संख्या दी गई श्रृंखला में प्रश्न चिह्न (?) के स्थान पर आएगी?
1, 4, 27, ?, 3125

- Ans 1. 128
 2. 256
 3. 64
 4. 1024

Question ID : 26433085704
Status : Answered
Chosen Option : 2

Q.5 उस विकल्प का चयन कीजिए जो तीसरी संख्या से उसी प्रकार संबंधित है जिस प्रकार दूसरी संख्या पहली संख्या से संबंधित है और छठी संख्या पांचवीं संख्या से संबंधित है।
4 : 74 :: 6 : ? :: 7 : 353

- Ans 1. 450
 2. 226
 3. 256
 4. 216

Question ID : 26433078850
Status : Answered
Chosen Option : 2

Q.6 निम्नलिखित में से कौन सी संख्या दी गई श्रृंखला में प्रश्न चिह्न (?) के स्थान पर आएगी?
5, 8, ?, 23, 35, 50, 68

- Ans 1. 10
 2. 14
 3. 16
 4. 12

Question ID : 26433090065
Status : Answered
Chosen Option : 2

Q.7 उस विकल्प का चयन करें जो तीसरे शब्द से उसी प्रकार संबंधित है जिस प्रकार दूसरा शब्द पहले शब्द से संबंधित है।
महाराष्ट्र : मुंबई :: पश्चिम बंगाल : ?
(शब्दों को अर्थपूर्ण शब्दों के रूप में मानना है, और उन्हें शब्द में अक्षरों/व्यंजनों/स्वरों की संख्या के आधार पर एक-दूसरे से संबंधित नहीं करना है।)

- Ans 1. बिहार
 2. पंजाब
 3. कोलकाता
 4. भोपाल

Question ID : 26433087199
Status : Answered
Chosen Option : 3

Q.8 एक निश्चित कूट भाषा में, 'NATION' को 'MZGRLM' के रूप में लिखा जाता है और 'PRINTS' को 'KIRMGH' के रूप में लिखा जाता है। उसी भाषा में 'BOTTLE' को कैसे लिखा जाएगा?

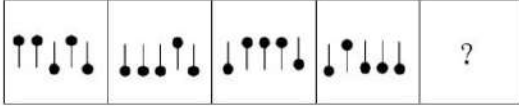
- Ans
- 1. OVGGYL
 - 2. YLGGOV
 - 3. YGGLOV
 - 4. OYGGLV

Question ID : 26433070330

Status : Answered

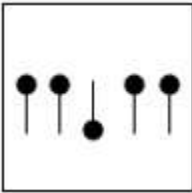
Chosen Option : 2

Q.9 दिए गए विकल्पों में से उस आकृति का चयन करें, जो निम्नलिखित श्रृंखला में प्रश्नचिह्न (?) को प्रतिस्थापित करेगी।

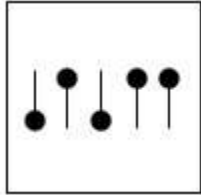


Ans

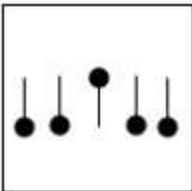
1.



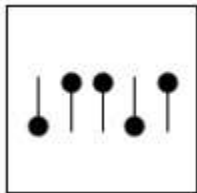
2.



3.



4.



Question ID : 26433086244

Status : Not Answered

Chosen Option : --

Q.10 उस विकल्प का चयन कीजिए जो तीसरे शब्द से उसी प्रकार संबंधित है जिस प्रकार दूसरा शब्द पहले शब्द से संबंधित है। (शब्दों को अर्थपूर्ण शब्दों के रूप में मानना है और उन्हें शब्द में अक्षरों/व्यंजनों/स्वरों की संख्या के आधार पर एक-दूसरे से संबंधित नहीं करना है।)
चिकित्सक : अस्पताल :: खगोल विज्ञानी : ?

- Ans
- 1. पानी का जहाज
 - 2. पेशा
 - 3. शोरूम
 - 4. वेधशाला

Question ID : 26433068056

Status : Answered

Chosen Option : 4

Q.11 तीन कथनों के बाद तीन निष्कर्ष I, II और III दिए गए हैं। यह मानते हुए कि कथनों में दी गयी जानकारी सही है, भले ही वह सामान्य रूप से ज्ञात तथ्यों से भिन्न लगे, निर्णय करें कि दिया गया कौन-सा/से निष्कर्ष तार्किक रूप से कथनों का अनुसरण करता है/करते हैं?

कथन:

सभी गाय स्तनधारी हैं।

सभी गधे स्तनधारी हैं।

सभी स्तनधारी जानवर हैं।

निष्कर्ष:

I. सभी गधे जानवर हैं।

II. सभी जानवर गधे हैं।

III. कुछ गाय गधे हैं।

- Ans
- 1. केवल निष्कर्ष I और II अनुसरण करते हैं
 - 2. केवल निष्कर्ष II और III अनुसरण करते हैं
 - 3. सभी निष्कर्ष अनुसरण करते हैं
 - 4. केवल निष्कर्ष I अनुसरण करता है

Question ID : 26433091716

Status : Answered

Chosen Option : 4

Q.12 कौन सा विकल्प नीचे दिए गए शब्दों के उस क्रम को निरूपित करता है जिस क्रम में वे अंग्रेजी शब्दकोश में आते हैं?

1. FLOWER
2. FLETCHER
3. FLORIST
4. FILTER
5. FLEUR

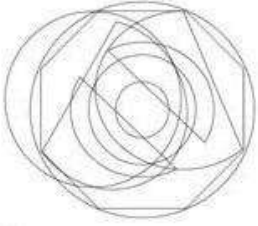
- Ans
- 1. 4, 2, 5, 3, 1
 - 2. 2, 4, 3, 5, 1
 - 3. 4, 5, 2, 3, 1
 - 4. 2, 4, 5, 3, 1

Question ID : 26433092547

Status : Answered


Chosen Option : 1

Q.13 उस विकल्प आकृति का चयन करें जो नीचे दी गई आकृति में अंतर्निहित है।
(आकृति घुमाने की अनुमति नहीं है)




Ans


✓ 1.




✗ 2.



✗ 3.



✗ 4.



KD Job Updates

Question ID : 26433085751

Status : Answered

Chosen Option : 1

Q.14 एक निश्चित कूट भाषा में 'TEACHER' शब्द को 'RCYAFCP' लिखा जाता है। 'SCHOOL' शब्द को 'QAFMMJ' लिखा जाता है। उसी भाषा में 'SUBJECT' शब्द को कैसे लिखा जाएगा?

- Ans
- 1. TVCKFDU
 - 2. QSZHCAR
 - 3. UWDLGEV
 - 4. RTAIDBS

Question ID : 26433090112

Status : Answered

Chosen Option : 2

Q.15 सात व्यक्ति P, Q, R, S, T, U और V एक दूसरे के बगल में एक सीधी पंक्ति में उत्तर की ओर मुख करके बैठे हैं (किंतु उनका इसी क्रम में होना अनिवार्य नहीं है)। U, V के बाईं ओर ठीक बगल में बैठा है। R, V के बाईं ओर पांचवें स्थान पर बैठा है। R, P और T के ठीक बगल में बैठा है। S, R के दाईं ओर तीसरे स्थान पर बैठा है।

Q के दाईं ओर ठीक बगल में कौन बैठा है?

- Ans
- 1. U
 - 2. T
 - 3. S
 - 4. V

Question ID : 26433080707

Status : Answered

Chosen Option : 3

Q.16 कौन-सा अक्षर-समूह दी गई शृंखला में प्रश्नचिह्न (?) के स्थान पर आकर शृंखला को पूर्ण करेगा?
EMRT, ?, IGVN, KDXK, MAZH

- Ans
- 1. HIUV
 - 2. IITP
 - 3. HKSR
 - 4. GJTQ

Question ID : 26433080423

Status : Answered

Chosen Option : 4

Q.17 निम्नलिखित में से कौन-सा पद दी गई शृंखला में प्रश्न-चिह्न (?) के स्थान पर आएगा?
SDR, XHU, CLX, ?, MTD, RXG

- Ans
- 1. HPA
 - 2. GQZ
 - 3. HQZ
 - 4. GPA

Question ID : 26433069457

Status : Answered

Chosen Option : 1

Q.18

दी गई आकृति की सही दर्पण-प्रतिबिंब का चयन करें, जब दर्पण को MN पर रखा जाता है, जैसा कि नीचे दिखाया गया है।



Ans

1. M f O R r T P
 2. W f O R r T P
 3. W f O R r T P
 4. M f O R r T P

Question ID : 26433090150

Status : Answered

Chosen Option : 3

Q.19 आठ व्यक्ति - D, E, G, H, K, L, S और T एक सीधी पंक्ति में उत्तर की ओर मुख करके बैठे हैं। E पंक्ति के बाएं सिरे से दूसरे स्थान पर बैठा है। H और E के बीच कोई नहीं बैठा है। G, H के दाईं ओर चौथे स्थान पर बैठा है। K, G के बाईं ओर ठीक बगल में बैठा है। K और D के बीच केवल दो व्यक्ति बैठे हैं। L, S के दाईं ओर तीसरे स्थान पर बैठा है। S और T के बीच कितने व्यक्ति बैठे हैं?

1. तीन से अधिक
 2. तीन
 3. एक
 4. कोई भी नहीं

Question ID : 26433092757

Status : Answered

Chosen Option : 2

Q.20 नीचे दिए गए समीकरण को गणितीय रूप से सही बनाने के लिए किन दो चिन्हों को परस्पर बदलना चाहिए?

$$63 + 5 \div 35 - 7 \times 21 = 23$$

1. + और ×
 2. × और +
 3. + और +
 4. + और -

Question ID : 264330117568

Status : Not Answered

Chosen Option : --

Q.1 डेकाथलॉन में कितनी स्पर्धाएं (events) होती हैं?

- Ans
- 1. 12
 - 2. 10
 - 3. 8
 - 4. 9

Question ID : 26433092335
Status : Not Answered
Chosen Option : --

Q.2 भारतीय संविधान के अनुच्छेद 25 से 28 _____ से संबंधित हैं।

- Ans
- 1. संवैधानिक उपचार के अधिकार
 - 2. सांस्कृतिक और शैक्षणिक अधिकार
 - 3. धर्म की स्वतंत्रता के अधिकार
 - 4. शोषण के विरुद्ध अधिकार

Question ID : 26433090670
Status : Not Answered
Chosen Option : --

Q.3 नवंबर 2022 तक की स्थिति के अनुसार, बसवराज बोम्मई भारत के _____ राज्य के मुख्यामंत्री हैं।

- Ans
- 1. केरल
 - 2. तेलंगाना
 - 3. तमिलनाडु
 - 4. कर्नाटक

Question ID : 264330114891
Status : Not Answered
Chosen Option : --

Q.4 प्रति व्यक्ति आय उस देश के एक व्यक्ति द्वारा अर्जित औसत _____ को निरूपित करता है।

- Ans
- 1. आय
 - 2. ऋण
 - 3. पूंजी
 - 4. देयता

Question ID : 264330115355
Status : Answered
Chosen Option : 1

Q.5 निम्नलिखित में से कौन-सी, भारतीय रेलवे ट्रेक की एक श्रेणी नहीं है?

- Ans
- 1. ब्रॉड गेज
 - 2. फुट गेज
 - 3. मीटर गेज
 - 4. नैरो गेज

Question ID : 264330115602

Status : Answered

Chosen Option : 2

Q.6 निम्नलिखित में से कौन सा त्योहार उत्तर प्रदेश में नहीं मनाया जाता है?

- Ans
- 1. ताज महोत्सव
 - 2. नुआखाई
 - 3. गंगा महोत्सव
 - 4. बुद्ध महोत्सव

Question ID : 264330106221

Status : Answered

Chosen Option : 2

Q.7 फरवरी 2022 में मुंबई के मालाबार हिल में राजभवन में नए दरबार हॉल का उद्घाटन किसने किया?

- Ans
- 1. श्री उद्धव ठाकरे
 - 2. श्री राम नाथ कोविंद
 - 3. श्री अमित शाह
 - 4. श्री नरेंद्र मोदी

Question ID : 26433081827

Status : Not Answered

Chosen Option : --

Q.8 जल का वैद्युत अपघटन _____ का एक उदाहरण है।

- Ans
- 1. द्विविस्थापन अभिक्रिया
 - 2. वियोजन अभिक्रिया
 - 3. विस्थापन अभिक्रिया
 - 4. संयोजन अभिक्रिया

Question ID : 264330115268

Status : Answered

Chosen Option : 3

Q.9 निम्नलिखित में से किस तरल का पृष्ठ तनाव सबसे अधिक होता है?

- Ans
- 1. एथेन
 - 2. मेथेनॉल
 - 3. एथेनॉल
 - 4. जल

Question ID : 26433089651

Status : Answered

Chosen Option : 3

Q.10 विश्व के जल संसाधनों में भारत का अंश कितना है?

- Ans
- 1. 8%
 - 2. 15%
 - 3. 10%
 - 4. 4%

Question ID : 26433092217

Status : Answered

Chosen Option : 4

Q.11 क्रिकेट में, जब नियम के अनुसार फेंकी गई गेंद, बल्ले या बल्लेबाज को छुए बिना बल्लेबाज के पास से गुजर जाती है और उस गेंद पर रन बनते हैं, तो वे रन _____ के रूप में माने जाते हैं।

- Ans
- 1. एलबीडब्ल्यू
 - 2. बाई
 - 3. लेग बाई
 - 4. वाइड बॉल

Question ID : 26433096230

Status : Answered

Chosen Option : 4

Q.12 Unemployment is measured in India on the methods prescribed by the:

- Ans
- 1. National Employment Department
 - 2. Reserve Bank of India
 - 3. National Sample Survey Organisation
 - 4. National Stock Exchange

Question ID : 26433092892

Status : Answered

Chosen Option : 1

Q.13 निम्नलिखित में से किसे मोहिनीअट्टम में उनके व्यापक योगदान के लिए पद्म श्री से सम्मानित किया गया है?

- Ans
- 1. कनक रेले
 - 2. के पी किट्टप्पा पिल्लई
 - 3. महबूब सुभानी
 - 4. सुचित्रा एला

Question ID : 264330115897
Status : Not Answered
Chosen Option : --

Q.14 सितारा देवी निम्नलिखित में से किस शास्त्रीय नृत्य के लिए प्रसिद्ध थीं?

- Ans
- 1. कथकली
 - 2. भरतनाट्यम
 - 3. कथक
 - 4. मणिपुरी

Question ID : 26433074077
Status : Not Answered
Chosen Option : --

Q.15 निम्नलिखित में से कौन जून 2022 में आजमगढ़ निर्वाचन क्षेत्र, उत्तर प्रदेश से धर्मेन्द्र यादव को पराजित करके सांसद बना?

- Ans
- 1. यशवंत सिंह
 - 2. दिनेश लाल यादव
 - 3. घनश्याम सिंह लोधी
 - 4. अखिलेश यादव

Question ID : 264330114975
Status : Not Answered
Chosen Option : --

Q.16 आंध्र प्रदेश में, राज्य व्यापार सलाहकार समिति के अध्यक्ष कौन होते हैं?

- Ans
- 1. राज्य के मुख्यमंत्री
 - 2. राज्य के वित्त मंत्री
 - 3. राज्य के राज्यपाल
 - 4. राज्य विधानमंडल के अध्यक्ष

Question ID : 26433090680
Status : Not Answered
Chosen Option : --

Q.17 भारत में, औपनिवेशिक शासन के दौरान कृषि में ठहराव को _____ द्वारा स्थायी रूप से समाप्त कर दिया गया था।

- Ans
- 1. औद्योगिक लाइसेंसिंग
 - 2. हरित क्रांति
 - 3. पुरानी फसल तकनीक
 - 4. ऋण सुविधा

Question ID : 26433064869
Status : Not Answered
Chosen Option : --

Q.18 निम्नलिखित में से किस शासक ने शुंग वंश की स्थापना की थी?

- Ans
- 1. वज्रमित्र
 - 2. अग्निमित्र
 - 3. पुष्यमित्र
 - 4. वसुमित्र

Question ID : 26433099154
Status : Answered
Chosen Option : 3

Q.19 कृषि उपज का वह हिस्सा जो किसानों द्वारा बाजार में बेचा जाता है, _____ अधिशेष कहलाता है।

- Ans
- 1. संशोधित
 - 2. संतुलित
 - 3. आयातित
 - 4. बाजार

Question ID : 264330115437
Status : Not Answered
Chosen Option : --

Q.20 फ़रवरी _____ में, महात्मा गांधी ने असहयोग आंदोलन को वापस लेने का फैसला किया।

- Ans
- 1. 1924
 - 2. 1925
 - 3. 1922
 - 4. 1927

Question ID : 26433089902
Status : Answered
Chosen Option : 3

Q.1 40 लीटर मिश्रण में 10% एल्कोहल और शेष जल है। यदि इसमें 4 लीटर पानी मिला दिया जाए, तो नए मिश्रण में एल्कोहल का प्रतिशत _____ होगा।

Ans

- ✓ 1. $9\frac{1}{11}\%$
✗ 2. $11\frac{1}{9}\%$
✗ 3. $11\frac{1}{11}\%$
✗ 4. $9\frac{2}{11}\%$

Question ID : 26433080367

Status : Answered

Chosen Option : 1

Q.2 एक पुलिसकर्मी 600 मीटर की दूरी से किसी चोर का पीछा करना प्रारंभ करता है। पुलिसकर्मी और चोर की चाल क्रमशः 12 km/h और 10 km/h है। चोर कितनी देर में पकड़ लिया जाएगा?

Ans

- ✗ 1. 16 min
✗ 2. 15 min
✗ 3. 17 min
✓ 4. 18 min

Question ID : 26433080196

Status : Not Answered

Chosen Option : --

Q.3 A और B एक काम को क्रमशः 18 दिन और 27 दिन में पूरा कर सकते हैं। वे एक साथ मिलकर काम करना शुरू करते हैं और 8 दिनों के बाद, A काम छोड़ देता है। शेष काम को B कितने दिनों में पूरा करेगा?

Ans

- ✗ 1. 9
✓ 2. 7
✗ 3. 8
✗ 4. 5

Question ID : 26433081072

Status : Answered

Chosen Option : 2

Q.4 यदि एक बेलन की त्रिज्या और ऊंचाई का अनुपात 3 : 2 है और त्रिज्या 21 cm है, तो वक्र पृष्ठीय क्षेत्रफल (cm^2 में) ज्ञात करें। ($\pi = 22/7$ का उपयोग करें)

Ans

- ✓ 1. 1848
✗ 2. 1488
✗ 3. 1948
✗ 4. 1884

Question ID : 26433075822

Status : Answered

Chosen Option : 1

Q.5 एक बेलनकार बर्तन की त्रिज्या 50% बढ़ा दी जाती है और ऊँचाई 50% कम कर दी जाती है। इसके आयतन में कितना परिवर्तन होगा?

- Ans
- ✓ 1. 12.5% की वृद्धि
 - ✗ 2. कोई परिवर्तन नहीं
 - ✗ 3. 12.5% की कमी
 - ✗ 4. 8% की वृद्धि

Question ID : 26433091904

Status : Answered

Chosen Option : 3

Q.6 एक दुकानदार शर्ट को ₹800 प्रति शर्ट के मूल्य पर बेचता है। वह पूर्ण भुगतान को नकद में करने वाले सभी ग्राहकों को 10% की छूट देता है, और एक बार में 10 शर्ट खरीदने वाले ग्राहकों को दो शर्ट मुफ्त देता है। यदि कोई ग्राहक दोनों प्रकार की छूटों को लेना चाहता है, तो वह किस शुद्ध प्रभावी छूट का लाभ उठा सकता है?(दुकानदार 10 शर्टों के लिए पैसे लेता है लेकिन उतने ही मूल्य में दो अतिरिक्त शर्ट देता है) यह केवल स्पष्टता के लिए है न कि प्रश्न के भाग के रूप में। प्रश्न की भाषा सही है।

- Ans
- ✓ 1. 25%
 - ✗ 2. 12.5%
 - ✗ 3. 15%
 - ✗ 4. 10%

Question ID : 26433092144

Status : Not Answered

Chosen Option : --

Q.7 एक वस्तु की कीमत में 8% की कमी हुई और फिर 12% की वृद्धि हुई। कीमत में लगभग प्रभावी परिवर्तन प्रतिशत कितना है?

- Ans
- ✗ 1. 3.5%
 - ✓ 2. 3%
 - ✗ 3. 16.67%
 - ✗ 4. 4%

Question ID : 26433085434

Status : Answered

Chosen Option : 2

Q.8 एक पेन का क्रय मूल्य ₹121.5 है और इसका अंकित मूल्य ₹150 है। कोई लाभ या हानि न होने के लिए अंकित मूल्य पर दो समान क्रमिक प्रतिशत छूट कितनी होनी चाहिए?

- Ans
- 1. 15%
 - 2. 11.56%
 - 3. 10%
 - 4. 12.56%

Question ID : 26433081711
Status : Not Answered
Chosen Option : --

Q.9 14 पुरुष 5 दिन में 55 m लंबी दीवार बना सकते हैं। 21 पुरुष 4 दिन में वह दीवार कितनी लंबी बना सकते हैं?

- Ans
- 1. 58 m
 - 2. 60 m
 - 3. 62 m
 - 4. 66 m

Question ID : 26433082396
Status : Answered
Chosen Option : 4

Q.10 R समान कीमत पर दो कारें खरीदता है। वह एक कार को 12% के लाभ पर और दूसरी कार को 8% की हानि पर बेचता है। उसके लाभ या हानि का कुल प्रतिशत ज्ञात करें।

- Ans
- 1. 2% हानि
 - 2. 4% हानि
 - 3. 2% लाभ
 - 4. 4% लाभ

Question ID : 26433081708
Status : Answered
Chosen Option : 2

Q.11 60 ग्राम की मिश्रधातु में सोने और तांबे का अनुपात 2 : 1 है। अनुपात को 1 : 2 बनाने के लिए उसमें और कितना तांबा मिलाया जाना चाहिए?

- Ans
- 1. 40 ग्राम
 - 2. 80 ग्राम
 - 3. 60 ग्राम
 - 4. 54 ग्राम

Question ID : 26433091898
Status : Answered
Chosen Option : 1

Q.12 यदि एक गोले का पृष्ठीय क्षेत्रफल $30,184 \text{ cm}^2$ है, तो उसका आयतन ज्ञात कीजिए ($\pi = \frac{22}{7}$ का प्रयोग कीजिए)।

- Ans
- 1. $\frac{616}{3} \times (49)^3 \text{ cm}^3$
 - 2. $\frac{616}{3} \times (49) \text{ cm}^3$
 - 3. $\frac{616}{3} \times (49)^2 \text{ cm}^3$
 - 4. $\frac{620}{3} \times (49)^2 \text{ cm}^3$

Question ID : 26433083058

Status : Answered

Chosen Option : 3

Q.13 एक दुकानदार को Rs.120 प्रति kg और Rs.130 प्रति kg मूल्य की चाय की दो किस्मों को किस अनुपात में मिलाना चाहिए, ताकि मिश्रण को Rs.136.40 प्रति kg पर बेचने पर उसे 10% का लाभ हो सके?

- Ans
- 1. 3 : 4
 - 2. 2 : 5
 - 3. 1 : 2
 - 4. 3 : 2

Question ID : 26433082708

Status : Answered

Chosen Option : 4

Q.14 एक कार्य को, A और B मिलकर 12 दिनों में, B और C मिलकर 15 दिनों में और C और A मिलकर 20 दिनों में पूरा कर सकते हैं। यदि वे सभी एक साथ कार्य करते हैं, तो वे कितने दिनों में कार्य समाप्त कर सकते हैं?

- Ans
- 1. 9
 - 2. 13
 - 3. 12
 - 4. 10

Question ID : 26433090264

Status : Answered

Chosen Option : 4

Q.15 3,12, 24 और 36 से विभाज्य तीन अंकों की सबसे बड़ी संख्या ज्ञात कीजिए।

Ans 1. 984

2. 936

3. 900

4. 924

Question ID : 26433091514

Status : Answered

Chosen Option : 2

Q.16 यदि $42 \div 2 + m \times 3 - 22 \div 11 + 3 = 28$ है, तो m का मान ज्ञात कीजिए।

Ans 1. 0

2. 3

3. 1

4. 2

Question ID : 26433087333

Status : Answered

Chosen Option : 4

Q.17 7 km/h की चाल से दौड़ रहे चोर का एक पुलिसकर्मी पीछा करता है, जिसकी चाल 8 km/h है। यदि चोर पुलिसकर्मी से 85 m आगे है, तो चोर को पकड़ने में पुलिसकर्मी को कितना समय लगेगा?

Ans 1. 6.2 मिनट

2. 5.1 मिनट

3. 3.2 मिनट

4. 4.3 मिनट

Question ID : 26433080132

Status : Not Answered

Chosen Option : --

Q.18 अब्दुल ने कुछ वर्षों के बाद एक बैंक को ₹5,832 का भुगतान किया। उसने 8% वार्षिक की दर से ₹5,000 का ऋण लिया था, जिसे वार्षिक रूप से चक्रवृद्धि किया जाना था। समय (वर्षों में) ज्ञात कीजिए।

Ans 1. 2

2. 3

3. 4

4. 5

Question ID : 26433091557

Status : Marked For Review

Chosen Option : 1

Q.19 यदि ₹22,445 के एक मूलधन को 30% वार्षिक की दर से दो वर्षों के लिए जमा किया गया है तथा ब्याज का संयोजन वार्षिक रूप से चक्रवृद्धि किया गया है, तो मिश्रधन (लगभग) क्या होगा ?

- Ans
- 1. ₹39,337
 - 2. ₹37,933
 - 3. ₹39,733
 - 4. ₹37,339

Question ID : 26433092028

Status : Answered

Chosen Option : 2

Q.20 किराना सामग्री का $\frac{1}{3}$ भाग 18% लाभ पर बेचा जाता है, $\frac{1}{4}$ भाग 25% लाभ पर और शेष को 30% लाभ बेचा जाता है। यदि कुल लाभ ₹1,980 हो, तो किराना सामग्री का अभीष्ट मूल्य ज्ञात कीजिए।

- Ans
- 1. ₹8,500
 - 2. ₹8,000
 - 3. ₹8,200
 - 4. ₹8,400

Question ID : 26433080169

Status : Not Attempted and Marked For Review

Chosen Option : --

Section : Part-D-English

Q.1 Select the appropriate idiom that can replace the underlined word/phrase in the following sentence.

Grandmother revealed the secret.

- Ans
- 1. let the chance slip by
 - 2. let things slide
 - 3. let the chips fall where they may
 - 4. let the cat out of the bag

Question ID : 26433073280

Status : Not Answered

Chosen Option : --

Q.2 Select the most appropriate option that can substitute the underlined segment in the given sentence. If there is no need to substitute it, select 'No substitution'.

She was embarrassed because her friends were laughing on her.

- Ans
- 1. her friends were laughing upon her
 - 2. her friends were laughing at her
 - 3. No substitution
 - 4. her friends were laughing to her

Question ID : 26433092940

Status : Not Answered

Chosen Option : --

Q.3 Select the most appropriate option that can substitute the underlined segment in the given sentence.

The principal went a step farther to declare 12th June as a holiday for the entire group of schools.

- Ans
- 1. went a step further more
 - 2. went a step further
 - 3. went a step farther more
 - 4. goes a step farther

Question ID : 26433091770

Status : Not Answered

Chosen Option : --

Q.4 Which of the following options is most similar in meaning to the given word?
Magnificent

- Ans
- 1. Grand
 - 2. Evil
 - 3. Capable
 - 4. Enlarge

Question ID : 26433088812

Status : Not Answered

Chosen Option : --

Q.5 Select the most appropriate homonym to fill in the blank.

In order to keep _____ I jog for 45 minutes daily.

- Ans
- 1. feet
 - 2. fit
 - 3. feat
 - 4. fitt

Question ID : 26433094734

Status : Not Answered

Chosen Option : --

Q.6 Select the most appropriate ANTONYM of the word given in brackets to fill in the blank.

The employer is too _____ (generous) to give a bonus to the employees.

- Ans
- 1. caring
 - 2. kind
 - 3. cripple
 - 4. stingy

Question ID : 26433070460
Status : Not Answered
Chosen Option : --

Q.7 Select the most appropriate synonym of the word given below to fill in the blank in the following sentence.

Static
Society is not a/an _____ but a dynamic entity.

- Ans
- 1. inert
 - 2. independent
 - 3. capable
 - 4. variable

Question ID : 26433093262
Status : Not Answered
Chosen Option : --

Q.8 Select the most appropriate synonym of the underlined word.

All his attempts to save the wounded animal turned out to be futile.

- Ans
- 1. Foresightful
 - 2. Mirthful
 - 3. Unsuccessful
 - 4. Worthwhile

Question ID : 26433089060
Status : Not Answered
Chosen Option : --

Q.9 Select the most appropriate option to substitute the underline segment in the given sentence.

Ever since that leak of private emails, everything the CEO has done has been viewed with suspicion.

- Ans
- 1. under a cloud
 - 2. under water
 - 3. under wood
 - 4. under soil

Question ID : 264330103756
Status : Not Answered
Chosen Option : --

Q.10 Select the most appropriate antonym of the bracketed word to fill in the blank.

The land near arid regions is not _____ (barren) enough for growing crops or any kind of vegetation.

- Ans
- 1. fertile
 - 2. devoid
 - 3. arid
 - 4. stark

Question ID : 26433060716

Status : Not Answered

Chosen Option : --

Q.11 Select the most appropriate option that can substitute the underlined segment in the given sentence. If there is no need to substitute it, select 'No substitution'.

Although my friends begged me, I chose not to go for the reunion.

- Ans
- 1. I choose no to go for the reunion.
 - 2. No substitution
 - 3. I have chose not to go for the reunion.
 - 4. I chose not to go to the reunion.

Question ID : 264330103767

Status : Not Answered

Chosen Option : --

Q.12 Which of the following sentences is an example of present progressive tense?

- Ans
- 1. Why has he delayed the work?
 - 2. Why is he crying like that?
 - 3. Why were you worried about that?
 - 4. Why had he been staying in Delhi for such a long time?

Question ID : 264330108883

Status : Not Answered

Chosen Option : --

Q.13 Identify and correct the INCORRECTLY spelt word in the given sentence.

Many people were enduering mental agony and health issues with the change in lifestyle.

- Ans
- 1. enduring
 - 2. agouny
 - 3. heaolth
 - 4. mentel

Question ID : 26433092319

Status : Not Answered

Chosen Option : --

Q.14 Choose the sentence that contains correct spellings.

- Ans 1. The sage said that life is nothing but a journey of compromises.
 2. The sage said that life is nothing but a journey of comprimises.
 3. The sage said that life is nothing but a journey of comprommizes.
 4. The sage said that life is nothing but a journey of compormises.

Question ID : 26433086499

Status : Not Answered

Chosen Option : --

Q.15 Select the most appropriate synonym of the given word.

Titan

- Ans 1. Midget
 2. Predator
 3. Giant
 4. Puny

Question ID : 26433072096

Status : Not Answered

Chosen Option : --

Comprehension:

In the following passage, some words have been deleted. Read the passage carefully and select the most appropriate option to fill in each blank.

One of the greatest (1)_____ to textiles is light. It is a form of energy that can fade colour and cause chemical and physical (2)_____ of textile fibres. Exposure to both, natural and ultra violet light can threaten the (3)_____ of textiles. Light damage occurs progressively. You must have noticed at home that the most faded folds of curtains are the first to (4)_____ and fall apart. Fading of colours and alterations of hues are the (5)_____ easy-to-detect signs of light damage.

SubQuestion No : 16

Q.16 Select the most appropriate option to fill in blank number 1.

- Ans 1. threats
 2. beauties
 3. additions
 4. warnings

Question ID : 26433098989

Status : Not Answered

Chosen Option : --

Comprehension:

In the following passage, some words have been deleted. Read the passage carefully and select the most appropriate option to fill in each blank.

One of the greatest (1)_____ to textiles is light. It is a form of energy that can fade colour and cause chemical and physical (2)_____ of textile fibres. Exposure to both, natural and ultra violet light can threaten the (3)_____ of textiles. Light damage occurs progressively. You must have noticed at home that the most faded folds of curtains are the first to (4) _____ and fall apart. Fading of colours and alterations of hues are the (5)_____ easy-to-detect signs of light damage.

SubQuestion No : 17

Q.17 Select the most appropriate option to fill in blank number 2.

- Ans** 1. degradation
 2. embarrassment
 3. mortification
 4. disgrace

Question ID : 26433098990

Status : Not Answered

Chosen Option : --

Comprehension:

In the following passage, some words have been deleted. Read the passage carefully and select the most appropriate option to fill in each blank.

One of the greatest (1)_____ to textiles is light. It is a form of energy that can fade colour and cause chemical and physical (2)_____ of textile fibres. Exposure to both, natural and ultra violet light can threaten the (3)_____ of textiles. Light damage occurs progressively. You must have noticed at home that the most faded folds of curtains are the first to (4) _____ and fall apart. Fading of colours and alterations of hues are the (5)_____ easy-to-detect signs of light damage.

SubQuestion No : 18

Q.18 Select the most appropriate option to fill in blank number 3.

- Ans** 1. seniority
 2. longevity
 3. oldness
 4. dexterity

Question ID : 26433098991

Status : Not Answered

Chosen Option : --

Comprehension:

In the following passage, some words have been deleted. Read the passage carefully and select the most appropriate option to fill in each blank.

One of the greatest (1)_____ to textiles is light. It is a form of energy that can fade colour and cause chemical and physical (2)_____ of textile fibres. Exposure to both, natural and ultra violet light can threaten the (3)_____ of textiles. Light damage occurs progressively. You must have noticed at home that the most faded folds of curtains are the first to (4) _____ and fall apart. Fading of colours and alterations of hues are the (5)_____ easy-to-detect signs of light damage.

SubQuestion No : 19

Q.19 Select the most appropriate option to fill in blank number 4.

- Ans 1. shred
 2. distill
 3. desolate
 4. irate

Question ID : 26433098992

Status : Not Answered

Chosen Option : --

Comprehension:

In the following passage, some words have been deleted. Read the passage carefully and select the most appropriate option to fill in each blank.

One of the greatest (1)_____ to textiles is light. It is a form of energy that can fade colour and cause chemical and physical (2)_____ of textile fibres. Exposure to both, natural and ultra violet light can threaten the (3)_____ of textiles. Light damage occurs progressively. You must have noticed at home that the most faded folds of curtains are the first to (4) _____ and fall apart. Fading of colours and alterations of hues are the (5)_____ easy-to-detect signs of light damage.

SubQuestion No : 20

Q.20 Select the most appropriate option to fill in blank number 5.

- Ans 1. prompt
 2. premature
 3. former
 4. earliest

Question ID : 26433098993

Status : Not Answered

Chosen Option : --

Section : Part-D-Hindi

Q.1 ' _____ घोड़े पर सवार होना।' उपरोक्त मुहावरे में रिक्त स्थान की पूर्ति उचित शब्द द्वारा कीजिए।

- Ans 1. पानी के
 2. तेजी के
 3. हवा के
 4. बातों के

Question ID : 26433069693

Status : Answered

Chosen Option : 2

Q.2 नीचे दिए गए वाक्य के अशुद्ध भाग का चयन कीजिए।
'रमेश को उस समय मुझसे बेफिजूल की बातें नहीं करनी चाहिए थीं।'

- Ans
- 1. बेफिजूल की बातें
 - 2. उस समय मुझसे
 - 3. रमेश को
 - 4. नहीं करनी चाहिए थीं।

Question ID : 26433085085
Status : Answered
Chosen Option : 1

Q.3 "चारों ओर रात्रि का घोर अँधेरा छाया था।"
उक्त वाक्य में प्रयुक्त 'घोर' के स्थान पर उसके उचित समानार्थी शब्द का प्रयोग निम्न में से किस वाक्य में किया गया है?

- Ans
- 1. चारों ओर रात्रि का गहरा अँधेरा छाया था।
 - 2. चारों ओर रात्रि का घनिष्ठ अँधेरा छाया था।
 - 3. चारों ओर रात्रि का घमासान अँधेरा छाया था।
 - 4. चारों ओर रात्रि का भयंकर अँधेरा छाया था।

Question ID : 26433085148
Status : Answered
Chosen Option : 2

Q.4 निम्नलिखित विकल्पों में से प्रश्नवाचक सर्वनाम का कौन सा एक शुद्ध वाक्य नहीं है?

- Ans
- 1. यह कौन- सी भाषा है?
 - 2. इस थैले में क्या है?
 - 3. क्या यह पत्र अपने प्राचार्य को देना है?
 - 4. द्विवेदी जी का मकान कौनसा है?

Question ID : 26433091238
Status : Not Answered
Chosen Option : --

Q.5 निम्न में से कौन-सा शब्द 'पयोद' शब्द का पर्यायवाची शब्द है?

- Ans
- 1. जलधर
 - 2. बारिश
 - 3. मलीन
 - 4. सहचर

Question ID : 26433067082
Status : Not Answered
Chosen Option : --

Q.6 'आँखों में _____ माला घिर आना।' उपरोक्त मुहावरे में रिक्त स्थान की पूर्ति उचित शब्द द्वारा कीजिए।

- Ans
- 1. मोती
 - 2. पुष्प
 - 3. मेघ
 - 4. फूल

Question ID : 26433069688
Status : Answered
Chosen Option : 1

Q.7 निम्न में से कौन-सा समूह 'गंगा' शब्द का पर्यायवाची समूह नहीं है?

- Ans
- 1. जाह्नवी, सुरसरि
 - 2. सुरसरि, त्रिपथगा
 - 3. त्रिपथगा, सूर्यजा
 - 4. भागीरथी, सुरसरि

Question ID : 26433067076
Status : Not Answered
Chosen Option : --

Q.8 "नमन का आरोग्य अच्छा है।" उक्त वाक्य में प्रयुक्त 'आरोग्य' के स्थान पर उसके समानार्थी शब्द का प्रयोग निम्न में से किस वाक्य में नहीं किया गया है?

- Ans
- 1. नमन अस्वस्थ है।
 - 2. नमन तंदुरुस्त है।
 - 3. नमन का स्वास्थ्य अच्छा है।
 - 4. नमन की सेहत अच्छी है।

Question ID : 26433085150
Status : Answered
Chosen Option : 3

Q.9 'दस रुपया में क्या आता है?' इस वाक्य में प्रयुक्त कौन सा शब्द अशुद्ध है?

- Ans
- 1. आता
 - 2. रुपया
 - 3. दस
 - 4. क्या

Question ID : 26433066801
Status : Answered
Chosen Option : 2

Q.10 निम्नलिखित विकल्पों में से कौन सा एक वाक्य संकेतवाचक सर्वनाम का नहीं है?

- Ans
- 1. नदी में पानी नहीं है।
 - 2. ये मेरी पुस्तकें हैं।
 - 3. यह लड़का इस कक्षा का मॉनीटर है।
 - 4. वह आदमी एक विदेशी जासूस है।

Question ID : 26433091242

Status : Answered

Chosen Option : 1

Q.11 निम्नलिखित वाक्य में रेखांकित खंड के स्थान पर प्रयुक्त होने वाले सबसे उपयुक्त विकल्प का चयन कीजिए।

बच्चों को काटकर आम खिलाओ।

- Ans
- 1. काट आम
 - 2. आम काट
 - 3. आम काटकर
 - 4. काटकर

Question ID : 26433079574

Status : Answered

Chosen Option : 3

Q.12 निम्नलिखित में से शुद्ध वाक्य का चयन कीजिए।

- Ans
- 1. सीमा को पांच बहने हैं।
 - 2. सीमा बहनें हैं पांच।
 - 3. सीमा की पांच बहनें हैं।
 - 4. बहनें पांच है सीमा।

Question ID : 26433091311

Status : Answered

Chosen Option : 3

Q.13 'मैं रविवार के दिन तुम्हारे घर आऊंगा।' वाक्य में रेखांकित वाक्य-खंड के स्थान पर उचित वाक्य-खंड या शब्द का प्रयोग करें।

- Ans
- 1. या
 - 2. में
 - 3. के
 - 4. को

Question ID : 26433062199

Status : Answered

Chosen Option : 3

Q.14 'जो इतिहास से संबंध रखता है' वाक्यांश के लिए एक शब्द, _____ है।

- Ans
- 1. खगोलिक
 - 2. इतिहासकार
 - 3. भौगोलिक
 - 4. ऐतिहासिक

Question ID : 26433062943

Status : Answered

Chosen Option : 2

Q.15 निम्नलिखित वाक्यों में से शुद्ध वाक्य का चयन कीजिए।

- Ans
- 1. काम इस में होना देर स्वभाविक था।
 - 2. इस काम में देरी होनी स्वाभाविक थी।
 - 3. इस काम को देर होना स्वभाविक थी।
 - 4. इस काम में देर होनी स्वभाविक था।

Question ID : 26433091313

Status : Answered

Chosen Option : 3

Comprehension:

दिए गए गद्यांश के अनुसार प्रश्न संख्या 1-5 के उत्तर दीजिए।

भारतवर्ष ने कभी भी भौतिक वस्तुओं के (1) _____ को बहुत अधिक महत्त्व नहीं दिया है। उसकी दृष्टि से मनुष्य के भीतर जो महान (2) _____ गुण स्थिर भाव से बैठा हुआ है, वही चरम और परम है। लोभ-मोह, काम-क्रोध आदि विचार मनुष्य में (3) _____ रूप से विद्यमान रहते हैं, पर उन्हें प्रधान शक्ति मान लेना और अपने मन तथा बुद्धि को उन्हीं के इशारे पर छोड़ देना बहुत बुरा (4) _____ है। भारतवर्ष ने कभी भी उन्हें उचित नहीं माना, उन्हें सदा (5) _____ के बंधन से बांधकर रखने का प्रयत्न किया है।

SubQuestion No : 16

Q.16 दिए गए शब्दों में से उचित शब्द चुनकर रिक्त स्थान (1) की पूर्ति कीजिए।

- Ans
- 1. संग्रह
 - 2. प्रयोग
 - 3. विग्रह
 - 4. लाभ

Question ID : 26433094115

Status : Answered

Chosen Option : 2

Comprehension:

दिए गए गद्यांश के अनुसार प्रश्न संख्या 1-5 के उत्तर दीजिए।

भारतवर्ष ने कभी भी भौतिक वस्तुओं के (1) _____ को बहुत अधिक महत्त्व नहीं दिया है। उसकी दृष्टि से मनुष्य के भीतर जो महान (2) _____ गुण स्थिर भाव से बैठा हुआ है, वही चरम और परम है। लोभ-मोह, काम-क्रोध आदि विचार मनुष्य में (3) _____ रूप से विद्यमान रहते हैं, पर उन्हें प्रधान शक्ति मान लेना और अपने मन तथा बुद्धि को उन्हीं के इशारे पर छोड़ देना बहुत बुरा (4) _____ है। भारतवर्ष ने कभी भी उन्हें उचित नहीं माना, उन्हें सदा (5) _____ के बंधन से बाँधकर रखने का प्रयत्न किया है।

SubQuestion No : 17

Q.17 दिए गए शब्दों में से उचित शब्द चुनकर रिक्त स्थान (2) की पूर्ति कीजिए।

- Ans
- 1. बाह्य
 - 2. विशेष
 - 3. महत्त्वपूर्ण
 - 4. आंतरिक

Question ID : 26433094116

Status : Answered

Chosen Option : 4

Comprehension:

दिए गए गद्यांश के अनुसार प्रश्न संख्या 1-5 के उत्तर दीजिए।

भारतवर्ष ने कभी भी भौतिक वस्तुओं के (1) _____ को बहुत अधिक महत्त्व नहीं दिया है। उसकी दृष्टि से मनुष्य के भीतर जो महान (2) _____ गुण स्थिर भाव से बैठा हुआ है, वही चरम और परम है। लोभ-मोह, काम-क्रोध आदि विचार मनुष्य में (3) _____ रूप से विद्यमान रहते हैं, पर उन्हें प्रधान शक्ति मान लेना और अपने मन तथा बुद्धि को उन्हीं के इशारे पर छोड़ देना बहुत बुरा (4) _____ है। भारतवर्ष ने कभी भी उन्हें उचित नहीं माना, उन्हें सदा (5) _____ के बंधन से बाँधकर रखने का प्रयत्न किया है।

SubQuestion No : 18

Q.18 दिए गए शब्दों में से उचित शब्द चुनकर रिक्त स्थान (3) की पूर्ति कीजिए।

- Ans
- 1. ऐच्छिक
 - 2. विशेष
 - 3. अनिवार्य
 - 4. स्वाभाविक

Question ID : 26433094117

Status : Answered

Chosen Option : 4

Comprehension:

दिए गए गद्यांश के अनुसार प्रश्न संख्या 1-5 के उत्तर दीजिए।

भारतवर्ष ने कभी भी भौतिक वस्तुओं के (1) _____ को बहुत अधिक महत्त्व नहीं दिया है। उसकी दृष्टि से मनुष्य के भीतर जो महान (2) _____ गुण स्थिर भाव से बैठा हुआ है, वही चरम और परम है। लोभ-मोह, काम-क्रोध आदि विचार मनुष्य में (3) _____ रूप से विद्यमान रहते हैं, पर उन्हें प्रधान शक्ति मान लेना और अपने मन तथा बुद्धि को उन्हीं के इशारे पर छोड़ देना बहुत बुरा (4) _____ है। भारतवर्ष ने कभी भी उन्हें उचित नहीं माना, उन्हें सदा (5) _____ के बंधन से बाँधकर रखने का प्रयत्न किया है।

SubQuestion No : 19

Q.19 दिए गए शब्दों में से उचित शब्द चुनकर रिक्त स्थान (4) की पूर्ति कीजिए।

- Ans 1. प्रणाली
 2. आचरण
 3. कार्य
 4. तरीका

Question ID : 26433094118

Status : Answered

Chosen Option : 2

Comprehension:

दिए गए गद्यांश के अनुसार प्रश्न संख्या 1-5 के उत्तर दीजिए।

भारतवर्ष ने कभी भी भौतिक वस्तुओं के (1) _____ को बहुत अधिक महत्त्व नहीं दिया है। उसकी दृष्टि से मनुष्य के भीतर जो महान (2) _____ गुण स्थिर भाव से बैठा हुआ है, वही चरम और परम है। लोभ-मोह, काम-क्रोध आदि विचार मनुष्य में (3) _____ रूप से विद्यमान रहते हैं, पर उन्हें प्रधान शक्ति मान लेना और अपने मन तथा बुद्धि को उन्हीं के इशारे पर छोड़ देना बहुत बुरा (4) _____ है। भारतवर्ष ने कभी भी उन्हें उचित नहीं माना, उन्हें सदा (5) _____ के बंधन से बाँधकर रखने का प्रयत्न किया है।

SubQuestion No : 20

Q.20 दिए गए शब्दों में से उचित शब्द चुनकर रिक्त स्थान (5) की पूर्ति कीजिए।

- Ans 1. रिश्तों
 2. संयम
 3. मोह
 4. बेड़ियों

Question ID : 26433094119

Status : Answered

Chosen Option : 4

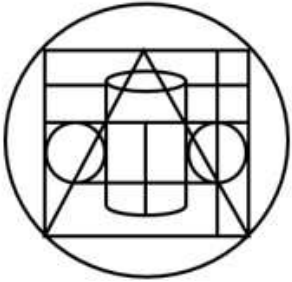
Constable GD in CAPFs SSF Rifleman GD in Assam Rifles and Sepoy in NCB Examination 2022

Roll Number	KD Job Updates
Candidate Name	KD Job Updates
Venue Name	Soni Computer Center
Exam Date	17/01/2023
Exam Time	2:30 PM - 3:30 PM
Subject	Constable GD Examination 2022

Section : Part-A-General Intelligence and Reasoning

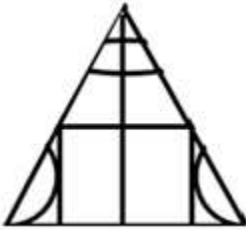
Q.1 उस विकल्प-आकृति का चयन कीजिए, जो प्रस्तुत आकृति में अंतर्निहित है।

(घुमाना अनुमन्य नहीं है)



Ans

X 1.



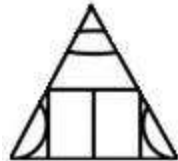
X 2.



X 3.



✓ 4.



Question ID : 26433076578

Status : Answered

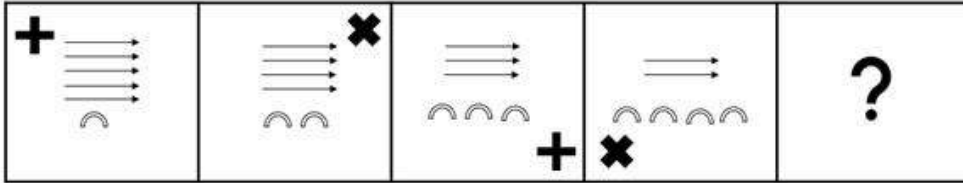
Chosen Option : 1

Q.2 निम्नलिखित में से कौन-सा अक्षर-समूह दी गई श्रृंखला में प्रश्न-चिह्न (?) के स्थान पर आएगा?
GPQU, FQRT, ?, DSTR, CTUQ

- Ans
- 1. EQRS
 - 2. ERRS
 - 3. ERSS
 - 4. FQSS

Question ID : 26433076445
Status : Answered
Chosen Option : 3

Q.3 उस आकृति का चयन करें, जो निम्न आकृति श्रृंखला में आगे आएगी।



Ans

- 1.
- 2.
- 3.
- 4.

KD Job Updates

Question ID : 26433076494
Status : Answered
Chosen Option : 2

Q.4 यदि 'P' का अर्थ है 'जोड़', 'Q' का अर्थ है 'घटाना', 'R' का अर्थ है 'गुणा', और 'S' का अर्थ है 'भाग', तो निम्नलिखित अभिव्यक्ति का मान क्या होगा?
76 P 42 S 6 Q 22 P (8 R 15)

Ans 1. 181

2. 121

3. 171

4. 221

Question ID : 264330114182

Status : Answered

Chosen Option : 1

Q.5 एक निश्चित कूट भाषा में, ZERO को 64 के रूप में कूटबद्ध किया जाता है और FIVE को 42 के रूप में कूटबद्ध किया जाता है। उसी भाषा में ELEVEN को किस प्रकार कूटबद्ध किया जाएगा?

Ans 1. 63

2. 62

3. 64

4. 61

Question ID : 26433067998

Status : Answered

Chosen Option : 1

Q.6 दर्पण को नीचे दिए गए चित्र के अनुसार MN पर रखे जाने पर दी गई आकृति का दर्पण में निर्मित सही प्रतिबिंब चयनित कीजिए।

R F 5 m G Y u s

M

|

N

Ans 1. s u Y G m 5 R R

2. s n u s Y G m 5 R R

3. s u Y G m 5 R R

4. s u Y G m 5 R R

Question ID : 26433080807

Status : Answered

Chosen Option : 4

Q.7 किस विकल्प में निम्नलिखित शब्दों का वह क्रम दिया गया है, जिस क्रम में वे अंग्रेजी शब्दकोश में आते हैं?

- 1 Straight
- 2 Strict
- 3 Stamp
- 4 Sticker
- 5 Streaming

- Ans
- 1. 4,3,1,5,2
 - 2. 4,5,2,3,1
 - 3. 3,5,4,1,2
 - 4. 3,4,1,5,2

Question ID : 26433069270

Status : Answered

Chosen Option : 4

Q.8 उस समुच्चय का चयन करें, जिसमें संख्याएँ उसी प्रकार संबंधित हैं, जिस प्रकार निम्नलिखित समुच्चयों की संख्याएँ हैं।

(नोट: संख्याओं को उसके घटक अंकों में विभाजित किए बिना, पूर्ण संख्याओं पर ही गणितीय संक्रियाएँ की जानी चाहिए। जैसे 13 - मान लीजिए 13 पर गणितीय संक्रियाएँ जैसे कि 13 में जोड़ना/घटाना/गुणा करना आदि किया जा सकता है। 13 को 1 और 3 में तोड़कर और फिर 1 और 3 पर गणितीय संक्रियाएँ करने की अनुमति नहीं है।)

(40, 10, 150)
(65, 35, 150)

- Ans
- 1. (70, 30, 270)
 - 2. (75, 40, 225)
 - 3. (55, 10, 225)
 - 4. (30, 12, 120)

Question ID : 26433076490

Status : Not Answered

Chosen Option : --

Q.9 छः मित्र (अमन, बिप्लब, चिरंतन, दिव्या, एलिजाबेथ और फिरोज) एक वृत्ताकार मेज के परितः मेज के केंद्र की ओर मुख करके बैठे हैं। अमन, बिप्लब के बाईं ओर तीसरे स्थान पर बैठा है। चिरंतन, अमन के ठीक बगल में है। एलिजाबेथ, दिव्या के दाईं ओर दूसरे स्थान पर बैठी है। चिरंतन, दिव्या के ठीक बगल में नहीं है। अमन के बाईं ओर से देखने पर, अमन और बिप्लब के बीच में कौन बैठा/बैठी है?

- Ans
- 1. चिरंतन और एलिजाबेथ
 - 2. दिव्या और चिरंतन
 - 3. फिरोज और एलिजाबेथ
 - 4. फिरोज और दिव्या

Question ID : 26433092772

Status : Answered

Chosen Option : 1

Q.10 उस विकल्प का चयन कीजिए जो पांचवें अक्षर-समूह से उसी प्रकार संबंधित है जिस प्रकार दूसरा अक्षर-समूह पहले अक्षर-समूह से संबंधित है और चौथा अक्षर-समूह तीसरे अक्षर-समूह से संबंधित है।
BOTH: WJEQ :: FACE: SXVT :: KING: ?

Ans 1. NPKR

2. OQLS

3. PRMT

4. MKPI

Question ID : 26433057497

Status : Not Answered

Chosen Option : --

Q.11 आठ सहकर्मी - A, B, C, D, E, F, G और H एक वृत्ताकार स्थिति में केंद्र की ओर मुख करके बैठे हैं, किंतु उनका इसी क्रम में होना अनिवार्य नहीं है। G, D के बाईं ओर तीसरे स्थान पर बैठा है। E, G के बाईं ओर तीसरे स्थान पर बैठा है। H, D के दाईं ओर ठीक बगल में बैठा है। B, E के दाईं ओर दूसरे स्थान पर बैठा है। F, E के ठीक बगल में बैठा है। F, C के बाईं ओर तीसरे स्थान पर है। D के बाईं ओर ठीक बगल में कौन बैठा है?

Ans 1. C

2. E

3. A

4. H

Question ID : 26433079055

Status : Answered

Chosen Option : 3

Q.12 एक निश्चित भाषा में ADVICE को VDAECI और BELONG को LEBGNO लिखा जाता है। इसी भाषा में BETTER को कैसे लिखा जाएगा?

Ans 1. RETTEB

2. YVGGVI

3. TEBRET

4. CFUUPS

Question ID : 26433074589

Status : Answered

Chosen Option : 3

Q.13 तीन कथनों के बाद तीन निष्कर्ष I, II और III दिए गए हैं। कथनों को सत्य मानते हुए, भले ही वे सामान्य रूप से ज्ञात तथ्यों से भिन्न प्रतीत होते हों, निर्धारित करें कि कौन-सा/से निष्कर्ष कथनों का तार्किक रूप से अनुसरण करता है/करते हैं।

कथन:

सभी बोतल कप हैं।

सभी कप प्लेट हैं।

कुछ प्लेट मेज हैं।

निष्कर्ष:

I. कुछ कप बोतल हैं।

II. कुछ प्लेट कप हैं।

III. कुछ मेज प्लेट हैं।

Ans 1. सभी निष्कर्ष अनुसरण करते हैं।

2. निष्कर्ष I और III दोनों अनुसरण करते हैं।

3. निष्कर्ष II और III दोनों अनुसरण करते हैं।

4. निष्कर्ष I और II दोनों अनुसरण करते हैं।

Question ID : 26433074630

Status : Answered

Chosen Option : 1

Q.14 G + H का अर्थ है 'G, H की बहन है'
G × H का अर्थ है 'G, H का पिता है'
G ÷ H का अर्थ है 'G, H का पुत्र है'
G - H का अर्थ है 'G, H की पुत्री है'
यदि P - J + D ÷ S है, तो J, S से किस प्रकार संबंधित है?

Ans 1. पुत्री

2. बुआ

3. भाई

4. मौसी

Question ID : 26433080431

Status : Answered

Chosen Option : 1

Q.15 निम्नलिखित में से कौन-सा अक्षर-समूह नीचे दी गई अक्षर-समूह शृंखला में प्रश्न-चिह्न (?) के स्थान पर आकर शृंखला को पूर्ण करेगा?
FZ, GA, JZ, OA, ?

Ans 1. UA

2. VY

3. UZ

4. VZ

Question ID : 26433067284

Status : Answered

Chosen Option : 4

Q.16 निम्नलिखित में से कौन-सी संख्या दी गई श्रृंखला में प्रश्न-चिह्न (?) को प्रतिस्थापित करेगी?
56000, 14000, 2800, ?, 140, 35, 7

- Ans
- 1. 560
 - 2. 350
 - 3. 400
 - 4. 700

Question ID : 26433080441

Status : Answered

Chosen Option : 4

Q.17 नीचे दिए गए समीकरण को सही बनाने के लिए किन दो चिन्हों को गणितीय रूप से परस्पर बदलना चाहिए?

$$42 + 14 \div 28 \times 98 - 14 = 105$$

- Ans
- 1. ÷ और -
 - 2. × और ÷
 - 3. - और +
 - 4. + और ×

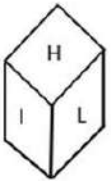
Question ID : 264330117541

Status : Answered

Chosen Option : 4

Q.18 एक ही पासे की दो अलग-अलग स्थितियों को दर्शाया गया है जिस पर 'G' से 'L' तक के वर्णाक्षर बने हैं।

'K' दर्शाने वाले फलक के विपरीत फलक पर स्थित वर्णाक्षर ज्ञात कीजिए।



- Ans
- 1. G
 - 2. J
 - 3. L
 - 4. H

Question ID : 26433085511

Status : Answered

Chosen Option : 3

Q.19 निम्नलिखित में से कौन-सी संख्याएँ दी गई श्रृंखला में प्रश्नवाचक चिह्न (?) का स्थान लेगी?
11, 33, 66, 110, 165, ?, ?

- Ans
- 1. 212, 234
 - 2. 231, 308
 - 3. 226, 254
 - 4. 222, 236

Question ID : 26433069048
Status : Answered
Chosen Option : 2

Q.20 उस विकल्प का चयन करें जो तीसरे शब्द से उसी प्रकार संबंधित है, जिस प्रकार दूसरा शब्द पहले शब्द से संबंधित है।
(शब्दों को अर्थपूर्ण शब्दों के रूप में माना जाना चाहिए और शब्द में अक्षरों की संख्या/व्यंजनों की संख्या/स्वरों की संख्या के आधार पर उन्हें एक-दूसरे से संबंधित नहीं किया जाना चाहिए)
चूहा : कृतक :: मगरमछ : ?

- Ans
- 1. शाकाहारी
 - 2. सरीसृप
 - 3. जल
 - 4. स्तनपायी

Question ID : 26433082576
Status : Answered
Chosen Option : 3

Section : Part-B-General Knowledge and General awareness

Q.1 भारतीय संविधान में मूल कर्तव्य किस देश के संविधान से गृहीत हैं?

- Ans
- 1. यू.एस.ए.
 - 2. फ्रांस
 - 3. कनाडा
 - 4. यू.एस.एस.आर. (अब रूस)

Question ID : 26433090664
Status : Answered
Chosen Option : 4

Q.2 _____ का विकास भारत में पहली पंचवर्षीय योजना का मुख्य उद्देश्य था।

- Ans
- 1. नदियों
 - 2. इमारतों
 - 3. वास्तुकला
 - 4. कृषि

Question ID : 264330115367
Status : Answered
Chosen Option : 4

Q.3 नवजात मृत्यु दर किसी दिए गए वर्ष या अन्य अवधि में प्रति 1000 जीवित जन्मों के जीवन के पहले _____ के दौरान होने वाली मृत्यु की संख्या को संदर्भित करता है।

- Ans
- 1. 27 दिन
 - 2. 26 दिन
 - 3. 28 दिन
 - 4. 25 दिन

Question ID : 264330116039
Status : Not Answered
Chosen Option : --

Q.4 नवंबर 2022 के अनुसार भारत के मुख्य आर्थिक सलाहकार कौन हैं?

- Ans
- 1. सुरेंद्र सिंह
 - 2. कृष्णमूर्ति सुब्रमण्यम
 - 3. वी. अनंत नागेश्वरन
 - 4. बलवंतराय मेहता

Question ID : 264330114901
Status : Answered
Chosen Option : 2

Q.5 किसी संस्था के स्वामित्व वाली वस्तुएं _____ कहलाती हैं।

- Ans
- 1. डिबेंचर
 - 2. देयताएं
 - 3. ऋण
 - 4. परिसंपत्तियां

Question ID : 264330115328
Status : Not Answered
Chosen Option : --

Q.6 निम्नलिखित में से कौन-सा मणिपुर का एक विशिष्ट मार्शल नृत्य रूप है?

- Ans
- 1. बिहू
 - 2. डंडा-जात्रा
 - 3. कुम्मी
 - 4. थांग ता

Question ID : 26433072926
Status : Answered
Chosen Option : 2

Q.7 आठवीं पंचवर्षीय योजना के दौरान प्रधानमंत्री कौन थे?

- Ans
- 1. मनमोहन सिंह
 - 2. एल के आडवाणी
 - 3. पी वी नरसिम्हा राव
 - 4. नरेन्द्र मोदी

Question ID : 264330116129
Status : Answered
Chosen Option : 3

Q.8 प्रसिद्ध नौचंदी मेला वर्ष में एक बार _____ राज्य में होता है।

- Ans
- 1. केरल
 - 2. मध्य प्रदेश
 - 3. उत्तर प्रदेश
 - 4. तमिलनाडु

Question ID : 264330115087
Status : Answered
Chosen Option : 2

Q.9 फुटबॉल क्लब मोहन बागान की स्थापना किस वर्ष हुई थी?

- Ans
- 1. 1889
 - 2. 1878
 - 3. 1873
 - 4. 1892

Question ID : 264330116292
Status : Answered
Chosen Option : 3

Q.10 भारत के राष्ट्रपति के रूप में निर्वाचित होने के लिए न्यूनतम आयु कितनी होनी चाहिए?

- Ans
- 1. 25 वर्ष
 - 2. 34 वर्ष
 - 3. 30 वर्ष
 - 4. 35 वर्ष

Question ID : 26433074902
Status : Answered
Chosen Option : 4

Q.11 अगस्त 2022 में, भारत के 49वें मुख्य न्यायाधीश के रूप में किसने शपथ ली?

- Ans
- 1. उदय उमेश ललित
 - 2. नूतलपाटि वेंकट रमण
 - 3. रंजन गोगोई
 - 4. शरद अरविंद बोबडे

Question ID : 264330115031

Status : Answered

Chosen Option : 4

Q.12 निम्नलिखित में से किस धातु में सर्वाधिक विद्युत संवाहकता होती है?

- Ans
- 1. सोना
 - 2. चाँदी
 - 3. लिथियम
 - 4. प्लैटिनम

Question ID : 264330115149

Status : Answered

Chosen Option : 1

Q.13 पृथ्वी के एकमात्र प्राकृतिक उपग्रह की पहचान कीजिए।

- Ans
- 1. कैलिस्टो
 - 2. चंद्रमा
 - 3. लो
 - 4. टाईटन

Question ID : 26433091490

Status : Answered

Chosen Option : 2

Q.14 स्वच्छ भारत मिशन को वर्ष _____ तक स्वच्छ भारत के दृष्टिकोण को पूरा करने के लिए शुरू किया गया था।

- Ans
- 1. अक्टूबर 2, 2018
 - 2. अक्टूबर 2, 2017
 - 3. अक्टूबर 2, 2019
 - 4. अक्टूबर 2, 2015

Question ID : 264330116176

Status : Not Answered

Chosen Option : --

Q.15 निम्नलिखित में से कौन मोलस्का के अंतर्गत आता है?

- Ans
- 1. स्टिंग-रे
 - 2. ऑक्टोपस
 - 3. टर्टल
 - 4. मस्का

Question ID : 264330115213

Status : Not Answered

Chosen Option : --

Q.16 निम्नलिखित में से किसने ग्रीष्मकालीन ओलम्पिक 2020 में ओलम्पिक कौल्डोन को लौ देकर प्रकाशित किया?

- Ans
- 1. वेंडरलेई कॉर्डेइरो डी लीमा
 - 2. नाओमी ओसाका
 - 3. दिनिगीर यिलामुजियांग
 - 4. जॉर्डन डकित

Question ID : 264330115950

Status : Not Answered

Chosen Option : --

Q.17 जतिन गोस्वामी ने किस नृत्य शैली में अपने योगदान के लिए अनेक पुरस्कार जीते हैं?

- Ans
- 1. कुचिपुड़ी
 - 2. ओडिसी
 - 3. भरतनाट्यम
 - 4. सत्रीया

Question ID : 264330115830

Status : Not Answered

Chosen Option : --

Q.18 जनरल डायर ने किस वर्ष में मार्शल लॉ के दौरान कमान संभाली थी?

- Ans
- 1. 1819
 - 2. 1945
 - 3. 1929
 - 4. 1919

Question ID : 264330115718

Status : Answered

Chosen Option : 4

Q.19 व्यापार और वाणिज्य का विस्तार करने और विदेशी मुद्रा लाने में क्या मदद करता है?

- Ans
- 1. निर्मित वस्तुओं का आयात
 - 2. मशीनों का आयात
 - 3. कच्चे माल का आयात
 - 4. निर्मित वस्तुओं का निर्यात

Question ID : 264330115575

Status : Answered

Chosen Option : 4

Q.20 निम्नलिखित में से कौन सा पुरातात्विक स्थल वर्तमान भारत में स्थित नहीं है?

- Ans
- 1. हल्लुर
 - 2. महागढ़ा
 - 3. मेहरगढ़
 - 4. चिराँद

Question ID : 26433089123

Status : Answered

Chosen Option : 1

Section : Part-C-Elementary Mathematics

Q.1 A 4 min में 1 km दौड़ सकता है, और B उतनी ही दूरी 4 min 10 sec में तय कर सकता है। 1 km की दौड़ में A, B को कितनी दूरी से हरा सकता है?

- Ans
- 1. 45 m
 - 2. 30 m
 - 3. 35 m
 - 4. 40 m

Question ID : 26433073042

Status : Not Answered

Chosen Option : --

Q.2 एक धनराशि चक्रवृद्धि ब्याज की दर से 10 वर्ष में स्वतः की दुगुनी हो जाती है। उसी ब्याज दर पर यह कितने वर्षों में चार गुनी हो जाएगी?

- Ans
- 1. 15
 - 2. 20
 - 3. 10
 - 4. 5

Question ID : 26433076380

Status : Answered

Chosen Option : 2

Q.3 A एक कार्य को 4 दिनों में कर सकता है, जबकि B उसे 8 दिनों में कर सकता है। A कार्य शुरू करता है और दोनों एकांतर दिनों में (एक दिन A और दूसरे दिन B) कार्य करते हैं, तो कार्य कितने दिनों में पूरा होगा?

- Ans
- 1. 4
 - 2. 3.5
 - 3. 5
 - 4. 3

Question ID : 26433075204
Status : Answered
Chosen Option : 3

Q.4 एक बस 60 मिनट में 72 km की दूरी तय करती है। बस की चाल km /h में कितनी है?

- Ans
- 1. 91
 - 2. 84
 - 3. 56
 - 4. 72

Question ID : 26433080003
Status : Answered
Chosen Option : 4

Q.5 एक निश्चित धनराशि वार्षिक रूप से चक्रवृद्धि किए जाने वाले चक्रवृद्धि ब्याज पर 3 वर्ष में स्वयं का $\frac{216}{125}$ गुना हो जाती है। ब्याज दर क्या है?

- Ans
- 1. 10 प्रतिशत
 - 2. 30 प्रतिशत
 - 3. 40 प्रतिशत
 - 4. 20 प्रतिशत

Question ID : 26433079878
Status : Not Answered
Chosen Option : --

Q.6 दो संख्याओं के बीच का अंतर 1086 है। जब हम बड़ी संख्या को छोटी संख्या से विभाजित करते हैं, तो हमें भागफल के रूप में छः और शेषफल के रूप में छः प्राप्त होते हैं। बड़ी संख्या ज्ञात करें।

- Ans
- 1. 1402
 - 2. 1202
 - 3. 1502
 - 4. 1302

Question ID : 26433081535
Status : Answered
Chosen Option : 4

Q.7 A और B मिलकर एक कार्य को 20 दिनों में कर सकते हैं, तथा B और C मिलकर समान कार्य को 100 दिनों में कर सकते हैं। यदि B अकेले समान कार्य को 140 दिनों में कर सकता है, तो A और C मिलकर समान कार्य को कितने दिनों में पूरा करेंगे?

- Ans
- ✓ 1. $175/8$ दिन
 - ✗ 2. $125/8$ दिन
 - ✗ 3. $145/6$ दिन
 - ✗ 4. $111/3$ दिन

Question ID : 264330116860

Status : Answered

Chosen Option : 1

Q.8 एक पंचायत चुनाव में, दो उम्मीदवार A और B थे। उम्मीदवार A को 42% मत मिले और वह B से 8000 मतों से हार गया। मतों की कुल संख्या कितनी है?

- Ans
- ✓ 1. 50000
 - ✗ 2. 30000
 - ✗ 3. 5000
 - ✗ 4. 3000

Question ID : 26433081014

Status : Answered

Chosen Option : 1

Q.9 दो क्रमिक छूट प्राप्त करने के बाद, रूपा को 1619.20 रुपए में एक ड्रेस मिली, जिसका अंकित मूल्य 2000 रुपए है। यदि दूसरी छूट 8 प्रतिशत है, तो पहली छूट है:

- Ans
- ✗ 1. 10 प्रतिशत
 - ✗ 2. 15 प्रतिशत
 - ✗ 3. 6 प्रतिशत
 - ✓ 4. 12 प्रतिशत

Question ID : 264330116745

Status : Not Answered

Chosen Option : --

Q.10 A, B, और C एक बिंदु से प्रारंभ करके क्रमशः 3m/s, 5m/s, और 6m/s की चाल से एक ही समय पर 900 m लंबाई वाले एक वृत्ताकार ट्रैक के परितः दौड़ना शुरू करते हैं। A और B एक ही दिशा में दौड़ते हैं, जबकि C उन दोनों के विपरीत दिशा में दौड़ता है। वे पहली बार कितने समय बाद मिलेंगे?

- Ans
- ✓ 1. 15 मिनट
 - ✗ 2. 13 मिनट
 - ✗ 3. 14 मिनट
 - ✗ 4. 12 मिनट

Question ID : 26433063960

Status : Not Answered

Chosen Option : --

Q.11 पांच लड़कों का वजन 22.450 kg, 24.150 kg, 24.720 kg, 28.530 kg और 25.150 kg दर्ज किया गया है। सभी पांच लड़कों के औसत वजन की गणना करें।

- Ans
- 1. 27 kg
 - 2. 29 kg
 - 3. 26 kg
 - 4. 25 kg

Question ID : 26433076392

Status : Answered

Chosen Option : 4

Q.12 यदि हीरे की अंगूठी ₹5,94,320 में बेची जाती है तो एक महिला को 5% की हानि होगी। उसे इसे किस कीमत पर बेचना चाहिए ताकि उसका लाभ 25% हो जाए?

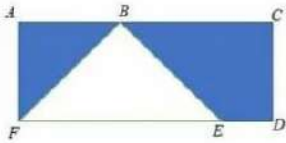
- Ans
- 1. ₹7,52,010
 - 2. ₹7,42,800
 - 3. ₹7,82,000
 - 4. ₹7,32,140

Question ID : 26433076076

Status : Not Answered

Chosen Option : --

Q.13 चित्र में दिए गए छायांकित भाग का क्षेत्रफल ज्ञात कीजिए, जहां ACDF एक आयत है, AC = 90 cm, AF = CD = 20 cm और ED = 10 cm है।



- Ans
- 1. 1000 cm²
 - 2. 1400 cm²
 - 3. 1100 cm²
 - 4. 1200 cm²

Question ID : 26433075745

Status : Not Answered

Chosen Option : --

Q.14 एक व्यक्ति अपनी मासिक आय का 31% और 9% क्रमशः भोजन और कपड़ों पर खर्च करता है, और शेष का एक तिहाई बच्चों की शिक्षा पर खर्च करता है। वह प्रति माह ₹4,500 बचाता है, जो भोजन, कपड़े और बच्चों की शिक्षा पर खर्च करने के बाद शेष राशि के आधे के बराबर है। उसकी मासिक आय ज्ञात कीजिए।

- Ans
- ✓ 1. ₹22,500
 - ✗ 2. ₹20,650
 - ✗ 3. ₹21,000
 - ✗ 4. ₹26,700

Question ID : 26433082793

Status : Answered

Chosen Option : 1

Q.15 यदि 90 को 2:3 के अनुपात में दो भागों में बाँटा गया है, तो दोनों भागों का मान क्या होगा?

- Ans
- ✗ 1. 50 और 40
 - ✗ 2. 40 और 50
 - ✓ 3. 36 और 54
 - ✗ 4. 42 और 48

Question ID : 26433075663

Status : Answered

Chosen Option : 3

Q.16 दिए गए व्यंजक का सरलीकरण कीजिए।

$$\frac{\frac{7}{4} + \frac{13}{5} \text{ of } \left(\frac{5}{52}\right)}{\frac{13}{11} + \frac{15}{11} \text{ of } \left(\frac{14}{5}\right)}$$

- Ans
- ✗ 1. $\frac{323}{13}$
 - ✗ 2. $\frac{389}{14}$
 - ✓ 3. $\frac{294}{13}$
 - ✗ 4. $\frac{287}{13}$

Question ID : 26433075407

Status : Answered

Chosen Option : 3

Q.17 एक कुर्सी का अंकित मूल्य Rs. 5,000 था। दुकानदार इसे 20% की छूट पर दे रहा था, लेकिन आगे सौदेबाजी करने पर वह क्रमागत छूट देने पर सहमत हुआ और अंत में कुर्सी को Rs.3,600 में बेच दिया। दुकानदार द्वारा दी जाने वाली दूसरी छूट क्या थी?

Ans 1. 10%

2. 12%

3. 11%

4. 9%

Question ID : 26433080361

Status : Answered

Chosen Option : 1

Q.18 5 cm त्रिज्या वाले सीसे के एक अर्धगोले को 75 cm ऊँचाई वाले एक लम्ब वृत्तीय शंकु में ढाला गया है। यदि शंकु तथा अर्धगोले का आयतन बराबर है, तो शंकु के आधार की त्रिज्या कितनी है?

Ans 1. 1.8 cm

2. 1.2 cm

3. 1.5 cm

4. 1.4 cm

Question ID : 26433075419

Status : Not Answered

Chosen Option : --

Q.19 एक महिला क्रय मूल्य पर 20% लाभ पर चीनी बेचने का दावा करती है और वास्तविक माप से 30% कम वजन का उपयोग करती है। उसका लाभ प्रतिशत क्या है?

Ans

1. $81\frac{2}{7}$ प्रतिशत

2. $57\frac{1}{7}$ प्रतिशत

3. $71\frac{3}{7}$ प्रतिशत

4. $67\frac{3}{7}$ प्रतिशत

Question ID : 26433079863

Status : Not Answered

Chosen Option : --

Q.20 यदि $p : q = 1 : 2$ है, तो $\frac{2p + 3q}{4p + 5q}$ का मान क्या है?

- Ans
- 1. $\frac{3}{5}$
 - 2. $\frac{7}{4}$
 - 3. $\frac{5}{3}$
 - 4. $\frac{4}{7}$

Question ID : 26433080324

Status : Not Answered

Chosen Option : --

Section : Part-D-English

Q.1 Select the INCORRECTLY spelt word.

- Ans
- 1. Seceade
 - 2. Seismic
 - 3. Relevance
 - 4. Titillate

Question ID : 26433073603

Status : Not Answered

Chosen Option : --

Q.2 Select the most appropriate option that can substitute the underlined segment in the given sentence.

Does it difficult to drive a lorry through a crowded narrow lane?

- Ans
- 1. Do it
 - 2. Would it
 - 3. Isn't it
 - 4. Aren't it

Question ID : 26433088988

Status : Not Answered

Chosen Option : --

Q.3 Select the correct option to substitute the underlined segment in the given sentence.
Ever since young, we were taught that we can obey our elders.

- Ans
- 1. need not
 - 2. should
 - 3. cannot
 - 4. May

Question ID : 26433092996

Status : Not Answered

Chosen Option : --

Q.4 Select the most appropriate ANTONYM of the given word.

Doleful

- Ans 1. Worthless
 2. Joyous
 3. Dismal
 4. Horrid

Question ID : 26433071980
Status : Not Answered
Chosen Option : --

Q.5 Select the correct spelling of the underlined word in the following sentence.

In edition to snacks, please bring cold drinks.

- Ans 1. addition
 2. eddition
 3. adition
 4. audition

Question ID : 26433072370
Status : Not Answered
Chosen Option : --

Q.6 Select the most appropriate synonym of the given word.

Annoy

- Ans 1. Irritate
 2. Testify
 3. Suppress
 4. Delight

Question ID : 26433073429
Status : Not Answered
Chosen Option : --

Q.7 Select the most appropriate meaning of the given idiom.

In the blink of an eye

- Ans 1. To make progress
 2. Happen fast and instantaneously
 3. To allow someone to move fast
 4. To flourish

Question ID : 26433072678
Status : Not Answered
Chosen Option : --

Q.8 Parts of the following sentence have been underlined and given as options. Select the option that contains an error.

Tomorrow in the exam hall, I am busy writing answers.

- Ans
- 1. writing
 - 2. am
 - 3. answers
 - 4. busy

Question ID : 26433089366
Status : Not Answered
Chosen Option : --

Q.9 Select the most appropriate ANTONYM of the given word.

Cynical

- Ans
- 1. Optimistic
 - 2. Silent
 - 3. Negligent
 - 4. Usurper

Question ID : 26433071969
Status : Not Answered
Chosen Option : --

Q.10 Select the most appropriate option to fill in the blank.

One day, an old man was walking through the forest _____ suddenly he heard someone crying for help.

- Ans
- 1. which
 - 2. than
 - 3. while
 - 4. when

Question ID : 26433072730
Status : Not Answered
Chosen Option : --

Q.11 Select the most appropriate synonym of the given word.
Despise

- Ans
- 1. Like
 - 2. Dislike
 - 3. Treasure
 - 4. Desire

Question ID : 26433086488
Status : Not Answered
Chosen Option : --

Q.12 Select the most appropriate option to fill in the blank.

The teacher _____ another picture in the slide to explain his point of view.

- Ans 1. extracted
 2. inserted
 3. excluded
 4. obtained

Question ID : 26433074066
Status : Not Answered
Chosen Option : --

Q.13 Select the correct word for the blanks in the given sentence.

My father loves to read a _____ and wants to _____ flight tickets for Delhi.

- Ans 1. reserve
 2. book
 3. purchase
 4. notepad

Question ID : 26433060532
Status : Not Answered
Chosen Option : --

Q.14 Select the most appropriate homonym to fill in the blank.

Due to the attack his vital organs _____ functioning.

- Ans 1. seized
 2. seas
 3. sized
 4. ceased

Question ID : 26433089071
Status : Not Answered
Chosen Option : --

Q.15 Select the most appropriate meaning of the given idiom.

An arm and a leg

- Ans 1. Willing to work
 2. Very expensive
 3. Too much criticism
 4. Too much bothering

Question ID : 26433073713
Status : Not Answered
Chosen Option : --

Comprehension:

In the following passage, some words have been deleted. Read the passage carefully and select the most appropriate option to fill in each blank.

Mirrors (1) _____ used since ages. It is said that Archimedes used huge mirrors to focus the heat of the sun's rays on enemy ships to burn them. The same (2) _____ is used in solar cookers, where mirrors are used to reflect and focus the sun's rays onto cooking containers. Astronomers use huge concave mirrors to focus starlight. The mirrors used in telescopes are polished by giving a thin coat of silver or aluminium to the glass. With the telescopes, astronomers can see the heavenly bodies, but even without the telescopes one can see the moon. A full moon shining (3) _____ is a beautiful sight. But it is also a puzzle, because if the sun and the moon both give the same light, then why is the moonlight more pleasant? The reason is that the moon reflects very (4) _____ sunlight, in fact, only seven per cent of the light it receives. The earth reflects about half of the radiation that it receives from the sun. Imagine how bright the earth must be looking from the moon! One can even read a book on the moon in the earthlight. However, you do not have to travel all the way to the moon to realise how strong the earth's light is. Observe the crescent moon soon after the new moon. The bright crescent is illuminated by the sun. The rest of the moon is illuminated by earthlight. In other words, the light reflected by the earth is falling on the moon. This is being reflected back to us and is strong enough to show the moon (5) _____. As the crescent increases in size, this effect disappears.

SubQuestion No : 16

Q.16 Select the most appropriate option to fill in blank number 1.

- Ans
- 1. are
 - 2. has been
 - 3. is being
 - 4. have been

Question ID : 26433060972

Status : Not Answered

Chosen Option : --

Comprehension:

In the following passage, some words have been deleted. Read the passage carefully and select the most appropriate option to fill in each blank.

Mirrors (1) _____ used since ages. It is said that Archimedes used huge mirrors to focus the heat of the sun's rays on enemy ships to burn them. The same (2) _____ is used in solar cookers, where mirrors are used to reflect and focus the sun's rays onto cooking containers. Astronomers use huge concave mirrors to focus starlight. The mirrors used in telescopes are polished by giving a thin coat of silver or aluminium to the glass. With the telescopes, astronomers can see the heavenly bodies, but even without the telescopes one can see the moon. A full moon shining (3) _____ is a beautiful sight. But it is also a puzzle, because if the sun and the moon both give the same light, then why is the moonlight more pleasant? The reason is that the moon reflects very (4) _____ sunlight, in fact, only seven per cent of the light it receives. The earth reflects about half of the radiation that it receives from the sun. Imagine how bright the earth must be looking from the moon! One can even read a book on the moon in the earthlight. However, you do not have to travel all the way to the moon to realise how strong the earth's light is. Observe the crescent moon soon after the new moon. The bright crescent is illuminated by the sun. The rest of the moon is illuminated by earthlight. In other words, the light reflected by the earth is falling on the moon. This is being reflected back to us and is strong enough to show the moon (5) _____. As the crescent increases in size, this effect disappears.

SubQuestion No : 17

Q.17 Select the most appropriate option to fill in blank number 2.

- Ans
- 1. verity
 - 2. moral
 - 3. supposition
 - 4. principle

Question ID : 26433060973

Status : Not Answered

Chosen Option : --

Comprehension:

In the following passage, some words have been deleted. Read the passage carefully and select the most appropriate option to fill in each blank.

Mirrors (1) _____ used since ages. It is said that Archimedes used huge mirrors to focus the heat of the sun's rays on enemy ships to burn them. The same (2) _____ is used in solar cookers, where mirrors are used to reflect and focus the sun's rays onto cooking containers. Astronomers use huge concave mirrors to focus starlight. The mirrors used in telescopes are polished by giving a thin coat of silver or aluminium to the glass. With the telescopes, astronomers can see the heavenly bodies, but even without the telescopes one can see the moon. A full moon shining (3) _____ is a beautiful sight. But it is also a puzzle, because if the sun and the moon both give the same light, then why is the moonlight more pleasant? The reason is that the moon reflects very (4) _____ sunlight, in fact, only seven per cent of the light it receives. The earth reflects about half of the radiation that it receives from the sun. Imagine how bright the earth must be looking from the moon! One can even read a book on the moon in the earthlight. However, you do not have to travel all the way to the moon to realise how strong the earth's light is. Observe the crescent moon soon after the new moon. The bright crescent is illuminated by the sun. The rest of the moon is illuminated by earthlight. In other words, the light reflected by the earth is falling on the moon. This is being reflected back to us and is strong enough to show the moon (5) _____. As the crescent increases in size, this effect disappears.

SubQuestion No : 18

Q.18 Select the most appropriate option to fill in blank number 3.

- Ans
- 1. beneath
 - 2. upward
 - 3. ahead
 - 4. overhead

Question ID : 26433060974

Status : Not Answered

Chosen Option : --

Comprehension:

In the following passage, some words have been deleted. Read the passage carefully and select the most appropriate option to fill in each blank.

Mirrors (1) _____ used since ages. It is said that Archimedes used huge mirrors to focus the heat of the sun's rays on enemy ships to burn them. The same (2) _____ is used in solar cookers, where mirrors are used to reflect and focus the sun's rays onto cooking containers. Astronomers use huge concave mirrors to focus starlight. The mirrors used in telescopes are polished by giving a thin coat of silver or aluminium to the glass. With the telescopes, astronomers can see the heavenly bodies, but even without the telescopes one can see the moon. A full moon shining (3) _____ is a beautiful sight. But it is also a puzzle, because if the sun and the moon both give the same light, then why is the moonlight more pleasant? The reason is that the moon reflects very (4) _____ sunlight, in fact, only seven per cent of the light it receives. The earth reflects about half of the radiation that it receives from the sun. Imagine how bright the earth must be looking from the moon! One can even read a book on the moon in the earthlight. However, you do not have to travel all the way to the moon to realise how strong the earth's light is. Observe the crescent moon soon after the new moon. The bright crescent is illuminated by the sun. The rest of the moon is illuminated by earthlight. In other words, the light reflected by the earth is falling on the moon. This is being reflected back to us and is strong enough to show the moon (5) _____. As the crescent increases in size, this effect disappears.

SubQuestion No : 19

Q.19 Select the most appropriate option to fill in blank number 4.

- Ans 1. petty
 2. little
 3. minute
 4. less

Question ID : 26433060975

Status : Not Answered

Chosen Option : --

Comprehension:

In the following passage, some words have been deleted. Read the passage carefully and select the most appropriate option to fill in each blank.

Mirrors (1) _____ used since ages. It is said that Archimedes used huge mirrors to focus the heat of the sun's rays on enemy ships to burn them. The same (2) _____ is used in solar cookers, where mirrors are used to reflect and focus the sun's rays onto cooking containers. Astronomers use huge concave mirrors to focus starlight. The mirrors used in telescopes are polished by giving a thin coat of silver or aluminium to the glass. With the telescopes, astronomers can see the heavenly bodies, but even without the telescopes one can see the moon. A full moon shining (3) _____ is a beautiful sight. But it is also a puzzle, because if the sun and the moon both give the same light, then why is the moonlight more pleasant? The reason is that the moon reflects very (4) _____ sunlight, in fact, only seven per cent of the light it receives. The earth reflects about half of the radiation that it receives from the sun. Imagine how bright the earth must be looking from the moon! One can even read a book on the moon in the earthlight. However, you do not have to travel all the way to the moon to realise how strong the earth's light is. Observe the crescent moon soon after the new moon. The bright crescent is illuminated by the sun. The rest of the moon is illuminated by earthlight. In other words, the light reflected by the earth is falling on the moon. This is being reflected back to us and is strong enough to show the moon (5) _____. As the crescent increases in size, this effect disappears.

SubQuestion No : 20

Q.20 Select the most appropriate option to fill in blank number 5.

- Ans
- 1. lowly
 - 2. faintly
 - 3. gloomily
 - 4. feebly

Question ID : 26433060976

Status : Not Answered

Chosen Option : --

Section : Part-D-Hindi

Q.1 'अचला नदी में पानी भरने गयी।'

उपरोक्त वाक्य में कारक सम्बन्धी त्रुटि पहचानकर निम्नलिखित में से शुद्ध वाक्य का चयन कीजिए।

- Ans
- 1. अचला नदी ने पानी भरने गयी।
 - 2. अचला नदी को पानी भरने गयी।
 - 3. अचला नदी के लिए पानी भरने गयी।
 - 4. अचला नदी से पानी भरने गयी।

Question ID : 26433066970

Status : Answered

Chosen Option : 4

Q.2 निम्नलिखित वाक्य के किस शब्द में अशुद्धि है?
अत्यधिक कार्य स्वास्थ्य को बिगाड़ देता है।

- Ans
- 1. बिगाड़
 - 2. कार्य
 - 3. अत्यधिक
 - 4. स्वास्थ्य

Question ID : 26433066765

Status : Answered

Chosen Option : 4

Q.3 'धन से सम्बन्ध रखने वाला' वाक्यांश के लिए उचित शब्द क्या होगा?

- Ans
- 1. मालिक
 - 2. आर्थिक
 - 3. मूल्यवान
 - 4. कीमती

Question ID : 26433065911

Status : Answered

Chosen Option : 2

Q.4 'अंडे से जन्म लेने वाला' वाक्यांश के लिए एक शब्द क्या होगा?

- Ans
- 1. अंडक
 - 2. जलज
 - 3. अंडज
 - 4. अंडाणु

Question ID : 26433065855

Status : Answered

Chosen Option : 3

Q.5 'रमेश घर आया।' इस वाक्य का संदिग्ध भूतकाल में रूपांतरण होगा -

- Ans
- 1. रमेश घर आ रहा था।
 - 2. रमेश घर आया था।
 - 3. रमेश घर आएगा।
 - 4. रमेश घर आ गया होगा।

Question ID : 26433062320

Status : Answered

Chosen Option : 2

Q.6 किसी संज्ञा या सर्वनाम शब्द की विशेषता बताने वाले शब्द क्या कहलाते हैं?

- Ans
- 1. क्रिया विशेषण
 - 2. विशेषण
 - 3. समुच्चयबोधक
 - 4. क्रिया

Question ID : 26433085049

Status : Answered

Chosen Option : 2

Q.7 निम्नलिखित वाक्य के किस खंड में त्रुटि है?
सूर्य पूर्व पर उगता है।

- Ans
- 1. सूर्य
 - 2. पर
 - 3. उगता
 - 4. पूर्व

Question ID : 26433066759
Status : Answered
Chosen Option : 2

Q.8 निम्नलिखित में से कौन सा एक अनेकार्थी शब्द नहीं है?

- Ans
- 1. मुद्रा
 - 2. गुरु
 - 3. राशि
 - 4. बुद्धि

Question ID : 26433091318
Status : Answered
Chosen Option : 2

Q.9 निम्नलिखित वाक्य में रेखांकित खंड के स्थान पर प्रयुक्त होने वाले सबसे उपयुक्त विकल्प का चयन कीजिए।

विकास और आकाश एक ढाबे पर खाना खाता हैं।

- Ans
- 1. खाती
 - 2. खा चुके
 - 3. पाता
 - 4. खाते

Question ID : 26433079665
Status : Answered
Chosen Option : 4

Q.10 निम्नलिखित वाक्य के रिक्त स्थान में सबसे उपयुक्त मुहावरा क्या होगा?
'राहुल अपनी माँ की _____ है।'

- Ans
- 1. ईद का चाँद
 - 2. अंधे की लाठी
 - 3. गाल बजाना
 - 4. अक्ल का दुश्मन

Question ID : 26433066721
Status : Answered
Chosen Option : 2

Q.11 'माँ ने पुत्र को अंक में ले लिया।' इस वाक्य में प्रयुक्त 'अंक' शब्द निम्न में से किस अर्थ को व्यक्त करता है?

- Ans
- 1. गिनती के अंक
 - 2. संख्या
 - 3. गोद
 - 4. आँख

Question ID : 26433080912
Status : Answered
Chosen Option : 3

Q.12 निम्नलिखित विकल्पों में से 'पृथ्वी से सम्बन्ध रखने वाला' वाक्यांश के लिए एक सार्थक शब्द क्या होगा ?

- Ans
- 1. सार्थक
 - 2. पार्थिव
 - 3. अपार्थिव
 - 4. निरर्थक

Question ID : 26433062539
Status : Answered
Chosen Option : 2

Q.13 'हिमाद्रि' का उपयुक्त पर्यायवाची शब्द क्या है?

- Ans
- 1. पर्वत
 - 2. शैल
 - 3. हिम
 - 4. हिमालय

Question ID : 26433091170
Status : Answered
Chosen Option : 4

Q.14 विकल्पों में दिए गए किस वाक्य में निम्न शब्द के सही विलोम शब्द का उपयोग हुआ है?
अपमान

- Ans
- 1. मुझे कार्यालय में बहुत सम्मान मिला।
 - 2. मुझे बहुत सामान मिला।
 - 3. मुझे कार्यालय में बहुत अनादर मिला।
 - 4. मुझे कार्यालय में बहुत मर्यादित किया गया।

Question ID : 26433066945
Status : Answered
Chosen Option : 1

Q.15 निम्न वाक्य में रेखांकित मुहावरे का उपयुक्त अर्थ दिए गए विकल्पों में से चुनिए।
उसके शौक तो देखो, सींग कटाकर बछड़ों में मिल रहा है।

- Ans
- 1. गलत काम करके छिपना
 - 2. बूढ़ा होकर बच्चों जैसा काम करना
 - 3. नुकसान उठाकर लाभ की प्रतीक्षा
 - 4. हानि करके लाभ की योजना बनाना

Question ID : 26433062310

Status : Answered

Chosen Option : 2

Comprehension:

निम्नलिखित गद्यांश में कुछ शब्दों को हटा दिया गया है। दिए गए विकल्पों की सहायता से रिक्त स्थानों की पूर्ति कीजिए। प्रत्येक संख्या के लिए सबसे उपयुक्त विकल्प का चयन कीजिए।

मनुष्य एक 1. _____ प्राणी है। इसका अर्थ है की वह 2. _____ जिए और दूसरों को भी जीने दे। वह अपने सुख दुःख के साथ दूसरों के सुख दुःख की ओर भी 3. _____ दें। अपने स्वार्थ को छोड़कर दूसरे के हित की भी सोचे। अपनी स्वार्थ सिद्धि करना 4. _____ नहीं है। 5. _____ ही सच्ची मानवता है।

SubQuestion No : 16

Q.16 रिक्त स्थान 1 की पूर्ति के लिए सबसे उपयुक्त विकल्प का चयन करें।

- Ans
- 1. राजनीतिक
 - 2. साहित्यिक
 - 3. सामाजिक
 - 4. पौराणिक

Question ID : 264330110903

Status : Answered

Chosen Option : 3

Comprehension:

निम्नलिखित गद्यांश में कुछ शब्दों को हटा दिया गया है। दिए गए विकल्पों की सहायता से रिक्त स्थानों की पूर्ति कीजिए। प्रत्येक संख्या के लिए सबसे उपयुक्त विकल्प का चयन कीजिए।

मनुष्य एक 1. _____ प्राणी है। इसका अर्थ है की वह 2. _____ जिए और दूसरों को भी जीने दे। वह अपने सुख दुःख के साथ दूसरों के सुख दुःख की ओर भी 3. _____ दें। अपने स्वार्थ को छोड़कर दूसरे के हित की भी सोचे। अपनी स्वार्थ सिद्धि करना 4. _____ नहीं है। 5. _____ ही सच्ची मानवता है।

SubQuestion No : 17

Q.17 रिक्त स्थान 2 की पूर्ति के लिए सबसे उपयुक्त विकल्प का चयन करें।

- Ans
- 1. तुम
 - 2. अपने आप
 - 3. स्वयं
 - 4. हम

Question ID : 264330110904

Status : Answered

Chosen Option : 3

Comprehension:

निम्नलिखित गद्यांश में कुछ शब्दों को हटा दिया गया है। दिए गए विकल्पों की सहायता से रिक्त स्थानों की पूर्ति कीजिए। प्रत्येक संख्या के लिए सबसे उपयुक्त विकल्प का चयन कीजिए।
मनुष्य एक 1. _____ प्राणी है। इसका अर्थ है की वह 2. _____ जिए और दूसरों को भी जीने दे। वह अपने सुख दुःख के साथ दूसरों के सुख दुःख की ओर भी 3. _____ दें। अपने स्वार्थ को छोड़कर दूसरे के हित की भी सोचे। अपनी स्वार्थ सिद्धि करना 4. _____ नहीं है। 5. _____ ही सच्ची मानवता है।

SubQuestion No : 18

Q.18 रिक्त स्थान 3 की पूर्ति के लिए सबसे उपयुक्त विकल्प का चयन करें।

- Ans
- 1. निरादर
 - 2. नज़रंदाज़
 - 3. अपमान
 - 4. ध्यान

Question ID : 264330110905

Status : Answered

Chosen Option : 4

Comprehension:

निम्नलिखित गद्यांश में कुछ शब्दों को हटा दिया गया है। दिए गए विकल्पों की सहायता से रिक्त स्थानों की पूर्ति कीजिए। प्रत्येक संख्या के लिए सबसे उपयुक्त विकल्प का चयन कीजिए।
मनुष्य एक 1. _____ प्राणी है। इसका अर्थ है की वह 2. _____ जिए और दूसरों को भी जीने दे। वह अपने सुख दुःख के साथ दूसरों के सुख दुःख की ओर भी 3. _____ दें। अपने स्वार्थ को छोड़कर दूसरे के हित की भी सोचे। अपनी स्वार्थ सिद्धि करना 4. _____ नहीं है। 5. _____ ही सच्ची मानवता है।

SubQuestion No : 19

Q.19 रिक्त स्थान 4 की पूर्ति के लिए सबसे उपयुक्त विकल्प का चयन करें।

- Ans
- 1. अमानवीयता
 - 2. दोस्ती
 - 3. मनवता
 - 4. मानवता

Question ID : 264330110906

Status : Answered

Chosen Option : 4

Comprehension:

निम्नलिखित गद्यांश में कुछ शब्दों को हटा दिया गया है। दिए गए विकल्पों की सहायता से रिक्त स्थानों की पूर्ति कीजिए। प्रत्येक संख्या के लिए सबसे उपयुक्त विकल्प का चयन कीजिए।
मनुष्य एक 1. _____ प्राणी है। इसका अर्थ है की वह 2. _____ जिए और दूसरों को भी जीने दे। वह अपने सुख दुःख के साथ दूसरों के सुख दुःख की ओर भी 3. _____ दें। अपने स्वार्थ को छोड़कर दूसरे के हित की भी सोचे। अपनी स्वार्थ सिद्धि करना 4. _____ नहीं है। 5. _____ ही सच्ची मानवता है।

SubQuestion No : 20

Q.20 रिक्त स्थान 5 की पूर्ति के लिए सबसे उपयुक्त विकल्प का चयन करें।

- Ans
- 1. अपना हित
 - 2. परहित
 - 3. बच्चों का हित
 - 4. घर का हित

Question ID : 264330110907

Status : Answered

Chosen Option : 2

KD Job Updates

Constable GD in CAPFs SSF Rifleman GD in Assam Rifles and Sepoy in NCB Examination 2022

Roll Number	KD Job Updates
Candidate Name	KD Job Updates
Venue Name	iON Digital Zone iDZ 2 Sector 62
Exam Date	17/01/2023
Exam Time	5:15 PM - 6:15 PM
Subject	Constable GD Examination 2022

Section : Part-A-General Intelligence and Reasoning

Q.1 दर्पण को नीचे दिए गए चित्र के अनुसार MN पर रखे जाने पर दी गई आकृति का दर्पण में निर्मित सही प्रतिबिंब चयनित कीजिए।

M
V e w Q A Z X 5 |
N

- Ans
- 1. 2 X Z A Q W e V
 - 2. 5 X Z V Q W e V
 - 3. 5 X Z A Q W e V
 - 4. 2 X Z A Q W e V

Question ID : 26433080810

Status : Answered

Chosen Option : 4

Q.2 निम्न में से कौन सी संख्या दी गई श्रृंखला में प्रश्नचिह्न (?) के स्थान पर आएगी?
1248, 887, 598, 429, ?, 259, 234

- Ans
- 1. 302
 - 2. 306
 - 3. 329
 - 4. 308

Question ID : 26433076754

Status : Answered

Chosen Option : 4

Q.3 निम्नलिखित में से कौन-सा अक्षर नीचे दी गई अक्षर श्रृंखला में प्रश्न-चिह्न (?) के स्थान पर आकर श्रृंखला को पूर्ण करेगा?
F, P, X, D, H, ?

- Ans
- 1. I
 - 2. K
 - 3. J
 - 4. H

Question ID : 26433067276

Status : Answered

Chosen Option : 3

Q.4 नीचे दिए गए समीकरण को गणितीय रूप से सही बनाने के लिए किन दो चिन्हों को परस्पर बदलना चाहिए?

$$26 - 13 + 39 \div 117 \times 24 = 31$$

- Ans
- 1. + और +
 - 2. - और +
 - 3. - और ×
 - 4. × और +

Question ID : 264330117539

Status : Answered

Chosen Option : 2

Q.5 तीन कथनों के बाद तीन निष्कर्ष I, II और III दिए गए हैं। कथनों को सत्य मानते हुए, भले ही वे सामान्य रूप से ज्ञात तथ्यों से भिन्न प्रतीत होते हों, निर्धारित करें कि कौन-सा/से निष्कर्ष कथनों का तार्किक रूप से अनुसरण करता है/करते हैं।

कथन:

सभी बिल्लियां चूहे हैं।

कुछ चूहे सफेद हैं।

सभी सफेद दूध हैं।

निष्कर्ष:

I. कुछ चूहे बिल्लियां हैं।

II. कुछ सफेद चूहे हैं।

III. कुछ दूध सफेद हैं।

- Ans
- 1. सभी निष्कर्ष अनुसरण करते हैं।
 - 2. निष्कर्ष I और III दोनों अनुसरण करते हैं।
 - 3. निष्कर्ष I और II दोनों अनुसरण करते हैं।
 - 4. निष्कर्ष II और III दोनों अनुसरण करते हैं।

Question ID : 26433074633

Status : Answered

Chosen Option : 1

Q.6 छः विद्यार्थी एक वृत्ताकार मेज के परितः मेज के केंद्र की ओर मुख करके बैठे हैं। A, C के बाईं ओर ठीक बगल में बैठा है। E, D के दाईं ओर तीसरे स्थान पर बैठा है। D, C के ठीक बगल में बैठा है। B, E और F दोनों के ठीक बगल में बैठा है। A के बाईं ओर दूसरे स्थान पर कौन बैठा है?

- Ans
- 1. D
 - 2. F
 - 3. E
 - 4. B

Question ID : 26433079503

Status : Answered

Chosen Option : 4

Q.7 उस समुच्चय का चयन करें, जिसकी संख्याओं के बीच ठीक वही संबंध है, जो संबंध निम्नांकित समुच्चयों की संख्याओं में है।

(नोट: संख्याओं को उसके घटक अंकों में विभाजित किए बिना, पूर्ण संख्याओं पर ही गणितीय संक्रियाएँ की जानी चाहिए। जैसे 13 - मान लीजिए 13 पर गणितीय संक्रियाएँ जैसे कि 13 में जोड़ना/घटाना/गुणा करना आदि किया जा सकता है। 13 को 1 और 3 में तोड़कर और फिर 1 और 3 पर गणितीय संक्रियाएँ करने की अनुमति नहीं है।)

(8, 280, 5)
(11, 308, 4)

- Ans
- 1. (6, 370, 9)
 - 2. (5, 270, 9)
 - 3. (13, 637, 7)
 - 4. (11, 440, 5)

Question ID : 26433076535

Status : Answered

Chosen Option : 3

Q.8 उस विकल्प का चयन करें जो पांचवें पद से उसी प्रकार संबंधित है जैसे दूसरा पद पहले पद से और चौथा पद तीसरे पद से संबंधित है।

COURAGE : EQWTCIG :: POWER: RQYGT :: WISDOM : ?

- Ans
- 1. EQWDOM
 - 2. FOQDOM
 - 3. WISTIG
 - 4. YKUFQO

Question ID : 26433057687

Status : Answered

Chosen Option : 4

Q.9 E - F का अर्थ है 'E, F की माता है'
E ÷ F का अर्थ है 'E, F का पिता है'
E + F का अर्थ है 'E, F की बहन है'
E × F का अर्थ है 'E, F का भाई है'
यदि T × U ÷ D × C है, तो T, C से किस प्रकार संबंधित है?

- Ans 1. पिता
 2. चाचा/ताऊ
 3. दादा/नाना
 4. भाई

Question ID : 26433080429
Status : Answered
Chosen Option : 2

Q.10 नीचे दिए गए समीकरण को गणितीय रूप से सही बनाने के लिए किन दो गणितीय चिह्नों को परस्पर बदलना चाहिए?
 $72 - 12 + 8 \times 6 \div 24 = 30$

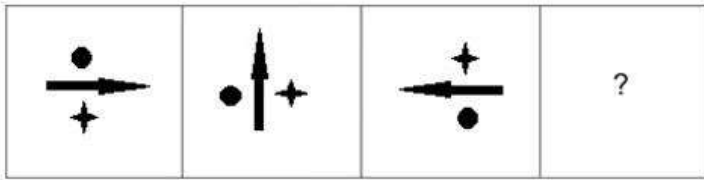
- Ans 1. - और +
 2. - और ×
 3. × और ÷
 4. - और ÷

Question ID : 264330114174
Status : Answered
Chosen Option : 4

KD Job Updates


Q.11 उस आकृति का चयन कीजिए जो नीचे दी गई श्रृंखला में प्रश्न चिह्न (?) के

स्थान पर आएगी।




Ans


✗ 1.




✗ 2.



✗ 3.



✓ 4.



KD Job Updates

Question ID : 26433070419

Status : Answered

Chosen Option : 4

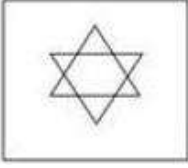
Q.12 निम्न विकल्पों में से उस उत्तर आकृति का चयन करें जिसमें नीचे दी गई प्रश्न आकृति निहित है (आकृति

घुमाने की अनुमति नहीं है)।

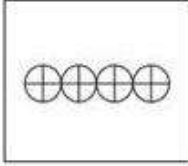


Ans

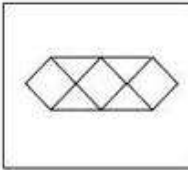
✗ 1.



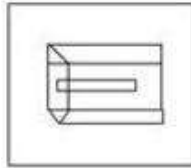
✗ 2.



✗ 3.



✓ 4.



Question ID : 26433070210

Status : Answered

Chosen Option : 4

Q.13 छः मित्र (अमन, बिप्लव, चिरंतन, दिव्या, एलिजाबेथ और फिरोज) एक वृत्ताकार मेज के परितः मेज के केंद्र की ओर मुख करके बैठे हैं। अमन, बिप्लव के बाईं ओर तीसरे स्थान पर बैठा है। चिरंतन, अमन के ठीक बगल में है। एलिजाबेथ, दिव्या के दाईं ओर दूसरे स्थान पर बैठी है। चिरंतन, दिव्या के ठीक बगल में नहीं है। बिप्लव और फिरोज के बीच में कौन बैठा/बैठी है?

Ans

✓ 1. दिव्या

✗ 2. चिरंतन

✗ 3. एलिजाबेथ

✗ 4. अमन

Question ID : 26433092770

Status : Answered

Chosen Option : 1

Q.14 एक निश्चित कूट भाषा में 'TRIP' को GIRK और 'FAST' को UZHG के रूप में कूटबद्ध किया जाता है। उसी भाषा में 'HOME' को किस प्रकार कूटबद्ध किया जाएगा?

- Ans
- 1. FMKB
 - 2. GNLD
 - 3. TMOW
 - 4. SLNV

Question ID : 26433074513
Status : Answered
Chosen Option : 4

Q.15 एक निश्चित कूट भाषा में, यदि BROTHER को 14 के रूप में और ACTIVE को 12 के रूप में कूटबद्ध किया जाता है, तो उसी भाषा में CHOCOLATE को कैसे कूटबद्ध किया जाएगा?

- Ans
- 1. 15
 - 2. 18
 - 3. 20
 - 4. 16

Question ID : 26433068065
Status : Answered
Chosen Option : 2

Q.16 निम्नलिखित में से कौन-सा अक्षर-समूह दी गई श्रृंखला में प्रश्न-चिह्न (?) के स्थान पर आएगा?
BTWH, DRUJ, FPSL, ?, JLOP

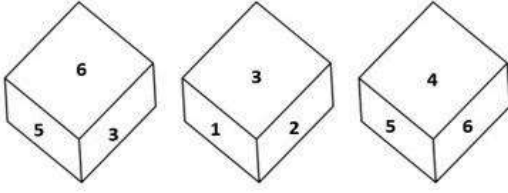
- Ans
- 1. HNPN
 - 2. HNQN
 - 3. HMPN
 - 4. INPN

Question ID : 26433076443
Status : Answered
Chosen Option : 2

Q.17

एक ही पासे की तीन अलग-अलग स्थितियाँ दर्शायी गई हैं। '4' दर्शाने वाले

फलक के विपरीत वाले फलक पर आने वाली संख्या ज्ञात कीजिए।



- Ans
- 1. 2
 - 2. 1
 - 3. 3
 - 4. 6

Question ID : 26433082889

Status : Answered

Chosen Option : 3

Q.18 निम्न श्रंखला में प्रश्न-चिह्न (?) के स्थान पर कौन सी संख्या आएगी?
24, 26, ?, 164, 658, 3292

- Ans
- 1. 96
 - 2. 72
 - 3. 88
 - 4. 54

Question ID : 26433068969

Status : Answered

Chosen Option : 4

Q.19 उस विकल्प का चयन कीजिए, जो तीसरे शब्द से उसी प्रकार संबंधित है, जैसे दूसरा शब्द, पहले शब्द से संबंधित है। (शब्दों को अर्थपूर्ण शब्दों के रूप में माना जाना चाहिए और शब्द में अक्षरों की संख्या / व्यंजनों की संख्या / स्वरों की संख्या के आधार पर एक दूसरे से संबंधित नहीं किया जाना चाहिए।)
उत्तर प्रदेश : लखनऊ :: ओडिशा : ?

- Ans
- 1. भुवनेश्वर
 - 2. गांधीनगर
 - 3. पटना
 - 4. बेंगलुरु

Question ID : 26433081080

Status : Answered

Chosen Option : 1

Q.20 किस विकल्प में निम्नलिखित शब्दों का वह क्रम दिया गया है, जिस क्रम में वे अंग्रेजी शब्दकोश में आते हैं?

- 1 Brown
- 2 Brand
- 3 Brunch
- 4 Branch
- 5 Brimming

Ans 1. 4,2,5,1,3

2. 4,3,5,1,2

3. 3,4,5,2,1

4. 2,4,5,1,3

Question ID : 26433069257

Status : Answered

Chosen Option : 1

Section : Part-B-General Knowledge and General awareness

Q.1 अर्थशास्त्र में, CRR का पूर्ण रूप क्या है?

Ans 1. Cash Reserve Ratio (कैश रिज़र्व रेशियो)

2. Cash Rationing Reserve (कैश राशनिंग रिज़र्व)

3. Cash Rate Ratio (कैश रेट रेशियो)

4. Capital Reserve Ratio (कैपिटल रिज़र्व रेशियो)

Question ID : 264330115326

Status : Answered

Chosen Option : 1

Q.2 निम्नलिखित में से कौन-सा एक मौलिक कर्तव्य है?

Ans 1. सार्वजनिक संपत्ति की रक्षा करना और हिंसा से दूर रहना

2. सार्वजनिक संपत्ति को खतरे में डालना और हिंसा से दूर रहना

3. सार्वजनिक संपत्ति की रक्षा करना और हिंसा को स्वीकार करना

4. सार्वजनिक संपत्ति की रक्षा करना और हिंसा को उजागर करना

Question ID : 26433089952

Status : Answered

Chosen Option : 1

Q.3 निम्नलिखित में से कौन सा भारतीय चिकित्सा अनुसंधान परिषद द्वारा सुझाए गए पांच मूलभूत खाद्य समूहों में से एक नहीं है?

Ans 1. दूध और मांस उत्पाद

2. दालें और फलियां

3. कार्बोहाइड्रेट और प्रोटीन

4. वसा और शर्करा

Question ID : 264330115216

Status : Answered

Chosen Option : 1

Q.4 निम्नलिखित में से किस कलाकार ने 2000 में पद्म विभूषण पुरस्कार जीता है?

- Ans
- 1. पंडित बिरजू महाराज
 - 2. जतिन गोस्वामी
 - 3. अमाला अक्किनेनी
 - 4. केलूचरण महापात्रा

Question ID : 264330115833
Status : Not Answered
Chosen Option : --

Q.5 लोक नृत्य 'लम्बाड़ी' किस भारतीय राज्य से संबंधित है?

- Ans
- 1. कर्नाटक
 - 2. असम
 - 3. आंध्र प्रदेश
 - 4. बिहार

Question ID : 26433072924
Status : Answered
Chosen Option : 1

Q.6 1913 में, दादासाहेब फाल्के द्वारा निर्देशित फिल्म, 'राजा हरिश्चन्द्र' को _____ की पहली फुल लेंथ फिल्म माना जाता है।

- Ans
- 1. बांग्लादेश
 - 2. भारत
 - 3. पाकिस्तान
 - 4. नेपाल

Question ID : 264330115707
Status : Answered
Chosen Option : 2

Q.7 मैसूर दशहरा महोत्सव कर्नाटक में मनाया जाने वाला एक _____-दिन का त्योहार है।

- Ans
- 1. 12
 - 2. 7
 - 3. 5
 - 4. 10

Question ID : 264330115079
Status : Not Answered
Chosen Option : --

Q.8 भारत में पहला सीमेंट संयंत्र किस वर्ष में स्थापित किया गया था?

- Ans
- 1. 1974
 - 2. 2014
 - 3. 2004
 - 4. 1904

Question ID : 264330115573
Status : Not Answered
Chosen Option : --

Q.9 निम्नलिखित में से कौन सा कार्यांतरित चट्टानों का उदाहरण नहीं है?

- Ans
- 1. ग्रेनाइट
 - 2. शीस्ट
 - 3. नाइस
 - 4. कार्टजाइट

Question ID : 26433089662
Status : Answered
Chosen Option : 2

Q.10 केंद्र सरकार की दूसरी जनसंख्या नीति, राष्ट्रीय जनसंख्या नीति (NPP) भारत में किस वर्ष में बनाई गई थी?

- Ans
- 1. 2000
 - 2. 1998
 - 3. 2005
 - 4. 2002

Question ID : 264330116042
Status : Answered
Chosen Option : 4

Q.11 सुकन्या समृद्धि योजना खाता बालिका के माता-पिता या कानूनी अभिभावकों द्वारा बालिका के _____ की होने से पहले कभी भी खोला जा सकता है।

- Ans
- 1. 12 वर्ष की आयु
 - 2. 10 वर्ष की आयु
 - 3. 18 वर्ष की आयु
 - 4. 16 वर्ष की आयु

Question ID : 264330116179
Status : Answered
Chosen Option : 4

Q.12 एन बीरेन सिंह मार्च 2022 में भारत के _____ राज्य के मुख्यमंत्री बने।

- Ans 1. मणिपुर
 2. नागालैंड
 3. मिजोरम
 4. असम

Question ID : 264330114893
Status : Answered
Chosen Option : 4

Q.13 ड्यूरालुमिन एल्युमिनियम और _____ से बना मिश्रधातु है।

- Ans 1. जिंक
 2. ताँबा
 3. टिन
 4. निकल

Question ID : 264330115141
Status : Not Answered
Chosen Option : --

Q.14 भारतीय संविधान का कौन सा अनुच्छेद राज्यपाल की क्षमादान की शक्ति से संबंधित है?

- Ans 1. अनुच्छेद 55
 2. अनुच्छेद 161
 3. अनुच्छेद 163
 4. अनुच्छेद 145

Question ID : 26433074905
Status : Answered
Chosen Option : 2

Q.15 निम्नलिखित में से कौन सा सबसे पुराना वेद है?

- Ans 1. सामवेद
 2. यजुर्वेद
 3. अथर्ववेद
 4. ऋग्वेद

Question ID : 264330115439
Status : Answered
Chosen Option : 4

Q.16 एशियाई खेल 2018 में कितने देशों ने भाग लिया था?

- Ans 1. 50
 2. 46
 3. 45
 4. 52

Question ID : 264330115908
Status : Not Answered
Chosen Option : --

Q.17 कौन-सी पंचवर्षीय योजना बुनियादी ढांचे के विकास, यानी बिजली और परिवहन पर केंद्रित थी?

- Ans
- 1. दूसरी
 - 2. तीसरी
 - 3. पहली
 - 4. चौथी

Question ID : 26433064861
Status : Answered
Chosen Option : 1

Q.18 एफ.आई.एच (FIH) पुरुष हॉकी विश्व कप 2018 किस देश द्वारा आयोजित किया गया था?

- Ans
- 1. बेल्जियम
 - 2. स्पेन
 - 3. पाकिस्तान
 - 4. भारत

Question ID : 26433086730
Status : Answered
Chosen Option : 2

Q.19 _____ ने भारत में योजना आयोग को प्रतिस्थापित किया।

- Ans
- 1. नीति आयोग
 - 2. भारतीय प्रतिभूति एवं विनियम बोर्ड
 - 3. भारतीय प्रतिस्पर्धा आयोग
 - 4. वित्त अयोग

Question ID : 264330115359
Status : Answered
Chosen Option : 1

Q.20 अक्टूबर 2022 में, स्लोवाक गणराज्य में भारत के अगले राजदूत के रूप में नियुक्त किसे किया गया?

- Ans
- 1. सिबी जॉर्ज
 - 2. सुचित्रा दुरई
 - 3. तरनजीत सिंह संधू
 - 4. अपूर्व श्रीवास्तव

Question ID : 264330115029
Status : Not Answered
Chosen Option : --

Q.1 $\{(6 + 4) + (12 \div 4 \times 2)\} + 1\frac{1}{3} \times 9 \div 3 + 1\frac{2}{3}$ का मान क्या होगा?

- Ans
- 1. $\frac{55}{3}$
 - 2. $\frac{65}{3}$
 - 3. $\frac{23}{3}$
 - 4. $\frac{17}{3}$

Question ID : 26433075178
Status : Answered
Chosen Option : 2

Q.2 एक वृत्ताकार ट्रैक के परितः एक दौड़ में एक एथलीट पहले राउंड में 10 m/sec की चाल से, दूसरे राउंड में 20 m/sec की चाल से और तीसरे राउंड में 30 m/sec की चाल से दौड़ता है। दौड़ में उसकी औसत चाल (m/sec में) ज्ञात करें। (दो दशमलव स्थान तक सही)

- Ans
- 1. 16.67
 - 2. 16.36
 - 3. 15.56
 - 4. 15.15

Question ID : 26433079916
Status : Answered
Chosen Option : 2

Q.3 एक एसी का अंकित मूल्य 36800 रुपए हैं। दुकानदार इस पर 11 प्रतिशत की ऑफ सीजन छूट प्रदान करता है। एसी का विक्रय मूल्य है:

- Ans
- 1. 33842 रुपए
 - 2. 34600 रुपए
 - 3. 31640 रुपए
 - 4. 32752 रुपए

Question ID : 264330116748
Status : Answered
Chosen Option : 4

Q.4 अर्ध-वार्षिक रूप से देय 2% वार्षिक नॉमिनल रेट के अनुरूप प्रभावी वार्षिक ब्याज दर _____ है।

- Ans
- 1. 4.2%
 - 2. 2.1%
 - 3. 2.01%
 - 4. 4.02%

Question ID : 26433080126
Status : Answered
Chosen Option : 3

Q.5 $\frac{7}{8}, \frac{13}{16}, \frac{31}{40}, \frac{63}{80}$ भिन्नो का सही अवरोही क्रम क्या है?

- Ans
- ✓ 1. $\frac{7}{8} > \frac{13}{16} > \frac{63}{80} > \frac{31}{40}$
- ✗ 2. $\frac{7}{8} > \frac{13}{16} > \frac{31}{40} > \frac{63}{80}$
- ✗ 3. $\frac{7}{8} > \frac{63}{80} > \frac{13}{16} > \frac{31}{40}$
- ✗ 4. $\frac{13}{16} > \frac{7}{8} > \frac{63}{80} > \frac{31}{40}$

Question ID : 26433073086

Status : Answered

Chosen Option : 1

Q.6 एक कार्य को रिया 12 दिनों में, रीता 18 दिनों में और गीता 24 दिनों में पूरा कर सकती है। रीता और गीता ने 6 दिनों तक एक साथ मिलकर कार्य किया और फिर गीता की जगह रिया ने ले ली। कार्य को कुल मिलाकर कितने दिनों में पूरा किया गया?

- Ans
- ✗ 1. 12 दिन
- ✗ 2. 17 दिन
- ✓ 3. 9 दिन
- ✗ 4. 8 दिन

Question ID : 26433065007

Status : Answered

Chosen Option : 3

Q.7 6 cm भुजा वाले एक समबाहु त्रिभुज के कोनों को काटकर एक सम-षट्भुज बनाया जाता है। इस सम-षट्भुज का क्षेत्रफल ज्ञात करें।

- Ans
- ✗ 1. $6\sqrt{2} \text{ cm}^2$
- ✓ 2. $6\sqrt{3} \text{ cm}^2$
- ✗ 3. 6 cm^2
- ✗ 4. $3\sqrt{3} \text{ cm}^2$

Question ID : 26433075279

Status : Answered

Chosen Option : 2

Q.8 रमेश ने कुछ पैसे उधार लिए और पहले वर्ष के अंत में Rs.4,565 और दूसरे वर्ष के अंत में Rs.6,534 के भुगतान द्वारा इसे चुकता करने के लिए सहमत हो गया। यदि चक्रवृद्धि ब्याज की दर 10% वार्षिक है, तो रमेश द्वारा उधार ली गई राशि ज्ञात कीजिए।

- Ans
- ✗ 1. Rs.9,660
- ✗ 2. Rs.9,440
- ✗ 3. Rs.9,330
- ✓ 4. Rs.9,550

Question ID : 26433064991

Status : Answered

Chosen Option : 4

Q.9 40 वस्तुओं का विक्रय मूल्य 60 वस्तुओं के क्रय मूल्य के बराबर है। लाभ प्रतिशत ज्ञात करें।

- Ans
- 1. 40 प्रतिशत
 - 2. 30 प्रतिशत
 - 3. 60 प्रतिशत
 - 4. 50 प्रतिशत

Question ID : 26433079859

Status : Answered

Chosen Option : 4

Q.10 A, B और C एक कार्य को क्रमशः 42, 56 और 63 दिनों में कर सकते हैं। उन्होंने एक साथ काम शुरू किया लेकिन A ने काम पूरा होने से 10 दिन पहले छोड़ दिया जबकि B ने काम पूरा होने से 12 दिन पहले छोड़ दिया। कुल कार्य को पूरा करने में लगने वाले दिनों की संख्या (लगभग) ज्ञात करें।

- Ans
- 1. 15 दिन
 - 2. 25 दिन
 - 3. 24 दिन
 - 4. 29 दिन

Question ID : 264330116863

Status : Answered

Chosen Option : 2

Q.11 तीन धावक अमन, रमेश और नरेश एक दौड़ लगाते हैं, जिसमें अमन रमेश से 48 मीटर आगे रहकर और नरेश से 68 मीटर आगे रहकर दौड़ पूरी करता है। इसी लंबाई की एक अन्य दौड़ में, रमेश, नरेश से 25 मीटर आगे रहकर दौड़ पूरी करता है। प्रत्येक धावक पूरी दूरी को स्थिर चाल से तय करता है। दौड़ की लंबाई ज्ञात करें।

- Ans
- 1. 248 मीटर
 - 2. 240 मीटर
 - 3. 244 मीटर
 - 4. 242 मीटर

Question ID : 26433065002

Status : Not Answered

Chosen Option : --

Q.12 यदि $(x - y)$ का $85\% = (x + y)$ का 25% है, तो y, x का कितना प्रतिशत है?

- Ans
- 1. $51\frac{4}{11}\%$
 - 2. $54\frac{6}{11}\%$
 - 3. $55\frac{1}{11}\%$
 - 4. $58\frac{3}{11}\%$

Question ID : 26433076075

Status : Answered

Chosen Option : 2

Q.13 एक व्यक्ति एक पैकेट को, वास्तविक माप से 10% कम वजन का उपयोग करके क्रय मूल्य पर बेचता है। उसका लाभ प्रतिशत क्या है?

Ans

✗ 1. $15\frac{1}{9}\%$

✗ 2. $12\frac{7}{9}\%$

✓ 3. $11\frac{1}{9}\%$

✗ 4. $13\frac{4}{9}\%$

Question ID : 26433076077

Status : Answered

Chosen Option : 3

Q.14 किसी संख्या को 42 से भाग देने पर हमें भागफल के रूप में 120 और शेषफल के रूप में 0 प्राप्त होता है। उसी संख्या को 41 से भाग देने पर शेषफल क्या होगा?

Ans ✗ 1. 40

✗ 2. 37

✓ 3. 38

✗ 4. 39

Question ID : 26433075459

Status : Answered

Chosen Option : 3

Q.15 पंकज एक कुर्सी की बिक्री पर पहले Rs.250 की नकद छूट और फिर 8% और 5% की दो क्रमिक छूट देता है। यदि कुर्सी का अंकित मूल्य Rs.4,250 है, तो दी गई छूट योजना के बाद ग्राहक के लिए कुर्सी का अंतिम मूल्य क्या है?

Ans ✓ 1. Rs.3,496

✗ 2. Rs.3,450

✗ 3. Rs.3,550

✗ 4. Rs.3,600

Question ID : 26433080318

Status : Answered

Chosen Option : 1

Q.16 2000 मीटर की परिधि वाले एक वृत्ताकार स्टेडियम के परितः 8000 मीटर की एक दौड़ में, सबसे तेज़ धावक रोहन और सबसे धीमा धावक सोहम, एक ही बिंदु से दौड़ना शुरू करते हैं और दौड़ शुरू होने के बाद 10 वें मिनट के अंत में आरंभिक बिंदु पर एक साथ पहली बार पहुंचते हैं। यदि रोहन, सोहम की दुगुनी चाल से दौड़ता है, तो रोहन को दौड़ समाप्त करने में कितना समय लगेगा?

- Ans
- 1. 10 मिनट
 - 2. 15 मिनट
 - 3. 25 मिनट
 - 4. 20 मिनट

Question ID : 26433073153
Status : Answered
Chosen Option : 3

Q.17 एक नया घन बनाने के लिए 5 cm, 4 cm और 3 cm भुजा वाले तीन घनों को पिघलाया जाता है। उस नए घन के विकर्ण की लंबाई ज्ञात कीजिए।

- Ans
- 1. $6\sqrt{3}$ cm
 - 2. $9\sqrt{3}$ cm
 - 3. $2\sqrt{3}$ cm
 - 4. $3\sqrt{3}$ cm

Question ID : 26433074946
Status : Answered
Chosen Option : 2

Q.18 A और B की आयु का अनुपात क्रमशः 5 : 8 है। 8 वर्ष बाद, उनकी आयु का अनुपात 3 : 4 होगा। उनकी वर्तमान आयु का योग क्या है?

- Ans
- 1. 13 वर्ष
 - 2. 52 वर्ष
 - 3. 39 वर्ष
 - 4. 26 वर्ष

Question ID : 26433075193
Status : Answered
Chosen Option : 4

Q.19 प्रथम 16 प्राकृत संख्याओं का औसत क्या है?

- Ans
- 1. 7.3
 - 2. 6.5
 - 3. 9.7
 - 4. 8.5

Question ID : 26433074949
Status : Answered
Chosen Option : 4

Q.20 एक चुनाव में, एक प्रत्याशी जिसने 70% मत पाए, 500 मतों के बहुमत से चुन लिया गया है। मतों की कुल संख्या क्या है?

- Ans 1. 1500
 2. 1250
 3. 500
 4. 2100

Question ID : 26433073001
Status : Answered
Chosen Option : 2

Section : Part-D-English

Q.1 Select the correct word for the blanks in the given sentence.

My sister _____ lift a box of 5 kilograms and I have a _____ of carrot juice.

- Ans 1. tank
 2. can
 3. could
 4. bottle

Question ID : 26433060530
Status : Not Answered
Chosen Option : --

Q.2 Select the most appropriate ANTONYM of the given word.

Nadir

- Ans 1. Zenith
 2. Essence
 3. Abyss
 4. Talent

Question ID : 26433071983
Status : Not Answered
Chosen Option : --

Q.3 Select the most appropriate homonym to fill in the blank.

He was supposed to _____ this work.

- Ans 1. do
 2. due
 3. doux
 4. dew

Question ID : 26433089074
Status : Not Answered
Chosen Option : --

Q.4 Select the correct spelling of the underlined word in the following sentence.

The cowboys were injured badly as they were involved in a dual.

- Ans
- 1. duet
 - 2. dwell
 - 3. duel
 - 4. duell

Question ID : 26433072368
Status : Not Answered
Chosen Option : --

Q.5 Select the most appropriate option to fill in the blank.

Each and every individual has the _____ to follow her/his own religion.

- Ans
- 1. compulsion
 - 2. economy
 - 3. freedom
 - 4. expulsion

Question ID : 26433071881
Status : Not Answered
Chosen Option : --

Q.6 Select the INCORRECTLY spelt word.

- Ans
- 1. Psalm
 - 2. Intermittence
 - 3. Cholera
 - 4. Phlegm

Question ID : 26433073606
Status : Not Answered
Chosen Option : --

Q.7 Select the most appropriate ANTONYM of the given word.

Sensitive

- Ans
- 1. Numb
 - 2. Understanding
 - 3. Precise
 - 4. Diplomatic

Question ID : 26433093427
Status : Not Answered
Chosen Option : --

Q.8 The following sentence has been divided into parts. One of them may contain an error. Select the part that contains the error from the given options.

I will driving/ you to/ the station/ in the morning.

- Ans
- 1. you to
 - 2. in the morning
 - 3. I will driving
 - 4. the station

Question ID : 26433089824
Status : Not Answered
Chosen Option : --

Q.9 Select the most appropriate meaning of the given idiom.

Miss the boat

- Ans
- 1. Boat will leave on time
 - 2. Fail to take advantage of an opportunity
 - 3. Opportunity never knocks twice
 - 4. It is late for the boat

Question ID : 26433072758
Status : Not Answered
Chosen Option : --

Q.10 Select the most appropriate synonym of the given word.

Brazen

- Ans
- 1. Bold
 - 2. Courteous
 - 3. Loyal
 - 4. Meek

Question ID : 26433086486
Status : Not Answered
Chosen Option : --

Q.11 Select the most appropriate option to substitute the underlined segment in the given sentence.

The subsequent QR codes will helping you access the data.

- Ans
- 1. helped you access
 - 2. help you access
 - 3. help you accessed
 - 4. helps you access

Question ID : 26433093017
Status : Not Answered
Chosen Option : --

Q.12 Select the most appropriate option that can substitute the underlined segment in the given sentence.

What is the qualities of a good teacher?

- Ans
- 1. is qualities
 - 2. will be a qualities
 - 3. do the qualities
 - 4. are the qualities

Question ID : 26433088985
Status : Not Answered
Chosen Option : --

Q.13 Select the most appropriate synonym of the given word.

Sombre

- Ans
- 1. Accidental
 - 2. Decent
 - 3. Doleful
 - 4. Critical

Question ID : 26433072347
Status : Not Answered
Chosen Option : --

Q.14 Select the most appropriate ANTONYM of the given word.

Camouflage

- Ans
- 1. Bluff
 - 2. Disguise
 - 3. Cloak
 - 4. Reveal

Question ID : 26433073575
Status : Not Answered
Chosen Option : --

Q.15 Select the most appropriate meaning of the given idiom.

Rain on someone's parade

- Ans
- 1. To test and check a brilliant student
 - 2. To restore the disturbed law and order situation
 - 3. To spoil and ruin a happy moment
 - 4. To blame and hurt an innocent child

Question ID : 26433073493
Status : Not Answered
Chosen Option : --

Comprehension:

In the following passage, some words have been deleted. Read the passage carefully and select the most appropriate option to fill in each blank.

The Indian Army, also known as the Bhartiya Thal Sena, is the armed forces' (1)_____ component. It grew from the East India Company's military forces, eventually (2)_____ the British Indian Army and, after independence, the Indian Army. It is regarded as the world's second-largest active army. The Indian Army's purpose is to ensure national (3)_____ and preserve India's sovereignty, territorial integrity, and harmony against external (4)_____ and intimidation. It also entails offering humanitarian assistance and support to the (5)_____ public during natural catastrophes and unforeseen times.

SubQuestion No : 16

Q.16 Select the most appropriate option to fill in blank no. 1.

- Ans 1. private-based
 2. land-based
 3. air-based
 4. water-based

Question ID : 26433058715

Status : Not Answered

Chosen Option : --

Comprehension:

In the following passage, some words have been deleted. Read the passage carefully and select the most appropriate option to fill in each blank.

The Indian Army, also known as the Bhartiya Thal Sena, is the armed forces' (1)_____ component. It grew from the East India Company's military forces, eventually (2)_____ the British Indian Army and, after independence, the Indian Army. It is regarded as the world's second-largest active army. The Indian Army's purpose is to ensure national (3)_____ and preserve India's sovereignty, territorial integrity, and harmony against external (4)_____ and intimidation. It also entails offering humanitarian assistance and support to the (5)_____ public during natural catastrophes and unforeseen times.

SubQuestion No : 17

Q.17 Select the most appropriate option to fill in blank no. 2.

- Ans 1. destructing
 2. reciting
 3. becoming
 4. scrolling

Question ID : 26433058716

Status : Not Answered

Chosen Option : --

Comprehension:

In the following passage, some words have been deleted. Read the passage carefully and select the most appropriate option to fill in each blank.

The Indian Army, also known as the Bhartiya Thal Sena, is the armed forces' (1)_____ component. It grew from the East India Company's military forces, eventually (2)_____ the British Indian Army and, after independence, the Indian Army. It is regarded as the world's second-largest active army. The Indian Army's purpose is to ensure national (3)_____ and preserve India's sovereignty, territorial integrity, and harmony against external (4)_____ and intimidation. It also entails offering humanitarian assistance and support to the (5)_____ public during natural catastrophes and unforeseen times.

SubQuestion No : 18

Q.18 Select the most appropriate option to fill in blank no. 3.

- Ans 1. crisis
 2. emergency
 3. forces
 4. security

Question ID : 26433058717

Status : Not Answered

Chosen Option : --

Comprehension:

In the following passage, some words have been deleted. Read the passage carefully and select the most appropriate option to fill in each blank.

The Indian Army, also known as the Bhartiya Thal Sena, is the armed forces' (1)_____ component. It grew from the East India Company's military forces, eventually (2)_____ the British Indian Army and, after independence, the Indian Army. It is regarded as the world's second-largest active army. The Indian Army's purpose is to ensure national (3)_____ and preserve India's sovereignty, territorial integrity, and harmony against external (4)_____ and intimidation. It also entails offering humanitarian assistance and support to the (5)_____ public during natural catastrophes and unforeseen times.

SubQuestion No : 19

Q.19 Select the most appropriate option to fill in blank no. 4.

- Ans 1. ministry
 2. aggression
 3. exports
 4. affairs

Question ID : 26433058718

Status : Not Answered

Chosen Option : --

Comprehension:

In the following passage, some words have been deleted. Read the passage carefully and select the most appropriate option to fill in each blank.

The Indian Army, also known as the Bhartiya Thal Sena, is the armed forces' (1)_____ component. It grew from the East India Company's military forces, eventually (2)_____ the British Indian Army and, after independence, the Indian Army. It is regarded as the world's second-largest active army. The Indian Army's purpose is to ensure national (3)_____ and preserve India's sovereignty, territorial integrity, and harmony against external (4)_____ and intimidation. It also entails offering humanitarian assistance and support to the (5)_____ public during natural catastrophes and unforeseen times.

SubQuestion No : 20

Q.20 Select the most appropriate option to fill in blank no. 5.

- Ans 1. exclusive
 2. unusual
 3. literate
 4. general

Question ID : 26433058719

Status : Not Answered

Chosen Option : --

Section : Part-D-Hindi

Q.1 निम्नलिखित विकल्पों में से 'तीनों कालों की बात जानने वाला' वाक्यांश के लिए एक सार्थक शब्द क्या होगा ?

- Ans 1. सर्वशक्तिमान
 2. विद्वान
 3. बुद्धिमान
 4. त्रिकालज्ञ

Question ID : 26433062537

Status : Answered

Chosen Option : 4

Q.2 नीचे दिए मुहावरे का सही अर्थ दिए गए विकल्पों में से चुनिए-
शैतान की आँत

- Ans 1. बुरी बात
 2. लम्बी बात
 3. कड़वी बात
 4. धोखे की बात

Question ID : 26433062313

Status : Answered

Chosen Option : 3

Q.3 "बाज़ार में अधिक कोलाहल था।"
उक्त वाक्य में प्रयुक्त 'कोलाहल' के स्थान पर उसके विलोम शब्द का प्रयोग निम्न में से किस वाक्य में किया गया है?

- Ans
- 1. बाज़ार में अधिक शोर था।
 - 2. बाज़ार में अधिक हलचल थी।
 - 3. बाज़ार में अधिक शांति थी।
 - 4. बाज़ार में अधिक लोग थे।

Question ID : 26433067019
Status : Answered
Chosen Option : 3

Q.4 'पृथ्वी अपने अक्ष पर घूमती है।' इस वाक्य में प्रयुक्त 'अक्ष' शब्द निम्न में से किस अर्थ को व्यक्त करता है?

- Ans
- 1. धुरी
 - 2. आत्मा
 - 3. पासा
 - 4. पहिया

Question ID : 26433069730
Status : Answered
Chosen Option : 1

Q.5 निम्नलिखित वाक्य के किस खंड में त्रुटि है?
माता-पिता का आदर रखना चाहिए।

- Ans
- 1. आदर
 - 2. माता-पिता
 - 3. रखना
 - 4. का

Question ID : 26433066762
Status : Answered
Chosen Option : 3

Q.6 'देश में विदेश से माल आने की क्रिया' वाक्यांश के लिए उचित शब्द बताइए -

- Ans
- 1. आयात
 - 2. निर्यात
 - 3. निगमन
 - 4. आगमन

Question ID : 26433065914
Status : Answered
Chosen Option : 1

Q.7 दूध में कौन पड़ गया?
उपरोक्त वाक्य में रेखांकित शब्द के स्थान पर कौनसा शब्द उचित होगा?

- Ans
- 1. मैं
 - 2. कोई
 - 3. यह
 - 4. क्या

Question ID : 26433062201
Status : Answered
Chosen Option : 4

Q.8 अध्यापक ने प्रखर को समझाया कि दूसरों पर निर्भर रहकर जीवन में सफलता नहीं मिलती, यहाँ तो
पड़ती है।
रिक्त स्थान की पूर्ति उचित मुहावरे द्वारा कीजिए।

- Ans
- 1. अपनी पगड़ी अपने हाथ
 - 2. अपनी करनी पार उतरनी
 - 3. अपनी ढपली अपना राग
 - 4. आगे कुआँ पीछे खाई

Question ID : 26433062601
Status : Answered
Chosen Option : 2

Q.9 निम्नलिखित में से किस वाक्य में विशेषण सम्बन्धी अशुद्धि है?

- Ans
- 1. वह एक भले आदमी हैं।
 - 2. इस गाँव में बाढ़ से क्षति हुई।
 - 3. यह डाल बहुत मोटी है।
 - 4. सबसे मीठा बोलो।

Question ID : 26433062997
Status : Answered
Chosen Option : 3

Q.10 'लालकिला पूरे भारत में प्रख्यात एक ऐतिहासिक इमारत है।' ऊपर दिए वाक्य में रेखांकित शब्द का पर्यायवाची क्या होगा?

- Ans
- 1. प्रसिद्ध
 - 2. परिपूर्ण
 - 3. कुख्यात
 - 4. पूर्ण

Question ID : 26433085103
Status : Answered
Chosen Option : 3

Q.11 'चास' का अर्थ है, 'जुताई'। परंतु 'चाष' का अर्थ प्रकट करने वाले शब्द से निम्न वाक्य पूर्ण कीजिए। हमने _____ कभी नहीं देखा।

- Ans
- 1. शतुरमुर्ग
 - 2. नीलकंठ पक्षी
 - 3. काकतुआ
 - 4. पंडुक पक्षी

Question ID : 26433063080
Status : Answered
Chosen Option : 4

Q.12 निम्नलिखित वाक्य में रेखांकित खंड के स्थान पर प्रयुक्त होने वाले सबसे उपयुक्त विकल्प का चयन कीजिए।
पूज्यनीय पिता जी का आदेश है।

- Ans
- 1. पूज्य
 - 2. पावन
 - 3. परम
 - 4. पाहन

Question ID : 26433079663
Status : Answered
Chosen Option : 1

Q.13 निम्नलिखित वाक्य के किस शब्द में अशुद्धि है?
उसकि गर्दन शर्म से नीची थी।

- Ans
- 1. नीची
 - 2. उसकि
 - 3. गर्दन
 - 4. शर्म

Question ID : 26433066763
Status : Answered
Chosen Option : 2

Q.14 दिए गए वाक्यों में से किस वाक्य में सही विभक्ति चिह्न का प्रयोग नहीं हुआ है?

- Ans
- 1. मैदान में कुछ बच्चे झूलों पर झूल रहे हैं।
 - 2. गेंद खेलने में अन्य लोगों पर चोट लग सकती है।
 - 3. मैदान में इस तरह गेंद से खेलना ठीक नहीं।
 - 4. कुछ बच्चों के हाथों में गेंद है।

Question ID : 26433062864
Status : Answered
Chosen Option : 2

Q.15 'जिसके आने की तिथि न हो' वाक्यांश के लिए सार्थक शब्द है-

- Ans
- 1. अग्रज
 - 2. सतिथि
 - 3. विस्थापित
 - 4. अतिथि

Question ID : 26433065858

Status : Answered

Chosen Option : 4

Comprehension:

निम्नलिखित गद्यांश में कुछ शब्दों को हटा दिया गया है। दिए गए विकल्पों की सहायता से रिक्त स्थानों की पूर्ति कीजिए। प्रत्येक संख्या के लिए सबसे उपयुक्त विकल्प का चयन कीजिए।
होली का त्यौहार प्रति वर्ष 1. _____ मास की पूर्णिमा को मनाया जाता है। पूर्णिमा की रात्रि को 2. _____ का दहन होता है। सभी 3. _____ भुलाकर एक-दूसरे पर रंग डालते हैं। रंगों का पर्व होली 4. _____ दृष्टि से विशेष महत्व रखता है। इस दिन शत्रु भी अपनी 5. _____ भुलाकर मित्र बन जाते हैं।

SubQuestion No : 16

Q.16 रिक्त स्थान 1 की पूर्ति के लिए सबसे उपयुक्त विकल्प का चयन करें।

- Ans
- 1. फाल्गुन
 - 2. भाद्रपद
 - 3. वैशाख
 - 4. कार्तिक

Question ID : 264330110855

Status : Answered

Chosen Option : 1

Comprehension:

निम्नलिखित गद्यांश में कुछ शब्दों को हटा दिया गया है। दिए गए विकल्पों की सहायता से रिक्त स्थानों की पूर्ति कीजिए। प्रत्येक संख्या के लिए सबसे उपयुक्त विकल्प का चयन कीजिए।
होली का त्यौहार प्रति वर्ष 1. _____ मास की पूर्णिमा को मनाया जाता है। पूर्णिमा की रात्रि को 2. _____ का दहन होता है। सभी 3. _____ भुलाकर एक-दूसरे पर रंग डालते हैं। रंगों का पर्व होली 4. _____ दृष्टि से विशेष महत्व रखता है। इस दिन शत्रु भी अपनी 5. _____ भुलाकर मित्र बन जाते हैं।

SubQuestion No : 17

Q.17 रिक्त स्थान 2 की पूर्ति के लिए सबसे उपयुक्त विकल्प का चयन करें।

- Ans
- 1. सुर्पणखा
 - 2. होलिका
 - 3. रावण
 - 4. मेघनाद

Question ID : 264330110856

Status : Answered

Chosen Option : 2

Comprehension:

निम्नलिखित गद्यांश में कुछ शब्दों को हटा दिया गया है। दिए गए विकल्पों की सहायता से रिक्त स्थानों की पूर्ति कीजिए। प्रत्येक संख्या के लिए सबसे उपयुक्त विकल्प का चयन कीजिए।
होली का त्यौहार प्रति वर्ष 1. _____ मास की पूर्णिमा को मनाया जाता है। पूर्णिमा की रात्रि को 2. _____ का दहन होता है। सभी 3. _____ भुलाकर एक-दूसरे पर रंग डालते हैं। रंगों का पर्व होली 4. _____ दृष्टि से विशेष महत्व रखता है। इस दिन शत्रु भी अपनी 5. _____ भुलाकर मित्र बन जाते हैं।

SubQuestion No : 18

Q.18 रिक्त स्थान 3 की पूर्ति के लिए सबसे उपयुक्त विकल्प का चयन करें।

- Ans
- 1. काम
 - 2. नाम
 - 3. पर्वों
 - 4. भेद-भाव

Question ID : 264330110857

Status : Answered

Chosen Option : 4

Comprehension:

निम्नलिखित गद्यांश में कुछ शब्दों को हटा दिया गया है। दिए गए विकल्पों की सहायता से रिक्त स्थानों की पूर्ति कीजिए। प्रत्येक संख्या के लिए सबसे उपयुक्त विकल्प का चयन कीजिए।
होली का त्यौहार प्रति वर्ष 1. _____ मास की पूर्णिमा को मनाया जाता है। पूर्णिमा की रात्रि को 2. _____ का दहन होता है। सभी 3. _____ भुलाकर एक-दूसरे पर रंग डालते हैं। रंगों का पर्व होली 4. _____ दृष्टि से विशेष महत्व रखता है। इस दिन शत्रु भी अपनी 5. _____ भुलाकर मित्र बन जाते हैं।

SubQuestion No : 19

Q.19 रिक्त स्थान 4 की पूर्ति के लिए सबसे उपयुक्त विकल्प का चयन करें।

- Ans
- 1. काल्पनिक
 - 2. पौराणिक
 - 3. आधुनिक
 - 4. साहित्यिक

Question ID : 264330110858

Status : Answered

Chosen Option : 2

Comprehension:

निम्नलिखित गद्यांश में कुछ शब्दों को हटा दिया गया है। दिए गए विकल्पों की सहायता से रिक्त स्थानों की पूर्ति कीजिए। प्रत्येक संख्या के लिए सबसे उपयुक्त विकल्प का चयन कीजिए।
होली का त्यौहार प्रति वर्ष 1. _____ मास की पूर्णिमा को मनाया जाता है। पूर्णिमा की रात्रि को 2. _____ का दहन होता है। सभी 3. _____ भुलाकर एक-दूसरे पर रंग डालते हैं। रंगों का पर्व होली 4. _____ दृष्टि से विशेष महत्व रखता है। इस दिन शत्रु भी अपनी 5. _____ भुलाकर मित्र बन जाते हैं।

SubQuestion No : 20

Q.20 रिक्त स्थान 5 की पूर्ति के लिए सबसे उपयुक्त विकल्प का चयन करें।

- Ans
- 1. भाईचारा
 - 2. शत्रुता
 - 3. दोस्ती
 - 4. मतभेद

Question ID : 264330110859

Status : Answered

Chosen Option : 2

Constable GD in CAPFs SSF Rifleman GD in Assam Rifles and Sepoy in NCB Examination 2022

Roll Number	KD Job Updates
Candidate Name	KD Job Updates
Venue Name	iON Digital Zone iDZ Naino Ka Bas
Exam Date	23/01/2023
Exam Time	9:00 AM - 10:00 AM
Subject	Constable GD Examination 2022

Section : Part-A-General Intelligence and Reasoning

Q.1 निम्नलिखित में से कौन-सा पद दी गई श्रृंखला में प्रश्न-चिह्न (?) के स्थान पर आएगा?
ARHT, YOJW, WLLZ, ?, SFPP

- Ans
- 1. UJNB
 - 2. TINC
 - 3. UINC
 - 4. TIKC

Question ID : 26433069446
Status : Answered
Chosen Option : 3

Q.2 निम्नलिखित में से कौन-सी संख्या दी गई श्रृंखला में प्रश्न चिह्न (?) के स्थान पर आएगी?
8, 14, 26, 50, ?

- Ans
- 1. 54
 - 2. 98
 - 3. 32
 - 4. 113

Question ID : 26433082737
Status : Answered
Chosen Option : 2

Q.3 उस विकल्प का चयन करें जो पांचवें अक्षर-समूह से उसी प्रकार संबंधित है जिस प्रकार दूसरा अक्षर-समूह पहले अक्षर-समूह से संबंधित है और चौथा अक्षर-समूह तीसरे अक्षर-समूह से संबंधित है।
NGC : OJH :: BQJ : CTO :: PTC : ?

- Ans
- 1. QWH
 - 2. QUD
 - 3. OQH
 - 4. OWH

Question ID : 26433057744
Status : Answered
Chosen Option : 1

Q.4 आठ व्यक्ति, D, E, M, P, T, W, Y और Z एक सीधी पंक्ति में उत्तर की ओर मुख करके बैठे हैं। D पंक्ति के बाएं सिरे से तीसरे स्थान पर बैठता है। D और Z के बीच केवल एक व्यक्ति बैठता है। P, Z के दाईं ओर तीसरे स्थान पर बैठता है। P और W के बीच केवल दो व्यक्ति बैठते हैं। E, Y के दाईं ओर ठीक बगल में बैठता है। M पंक्ति के किसी भी सिरे पर नहीं बैठता है। पंक्ति के दाएं सिरे से T का स्थान क्या है?

- Ans 1. पहला
 2. दूसरा
 3. तीसरा
 4. चौथा

Question ID : 26433092421

Status : Answered

Chosen Option : 1

Q.5 'P % Q' का अर्थ है 'P, Q का भाई है'।
'P + Q' का अर्थ है 'P, Q की बेटी है'।
'P = Q' का अर्थ है 'P, Q का बेटा है'।
'P # Q' का अर्थ है 'P, Q की पत्नी है'।
यदि $L = M \# N \% O + P$ है, तो L, P से किस प्रकार संबंधित है?

- Ans 1. नाती
 2. पोता
 3. दादा
 4. भतीजा

Question ID : 26433087001

Status : Answered

Chosen Option : 2

Q.6 उस समुच्चय का चयन करें, जिसकी संख्याओं के बीच ठीक वही संबंध है, जो संबंध निम्नांकित समुच्चयों की संख्याओं में हैं।
(नोट: संख्याओं को उसके घटक अंकों में विभाजित किए बिना, पूर्ण संख्याओं पर ही गणितीय संक्रियाएँ की जानी चाहिए। जैसे 13 - मान लीजिए 13 पर गणितीय संक्रियाएँ जैसे कि 13 में जोड़ना/घटाना/गुणा करना आदि किया जा सकता है। 13 को 1 और 3 में तोड़कर और फिर 1 और 3 पर गणितीय संक्रियाएँ करने की अनुमति नहीं है।)
(16, 350, 19)
(14, 310, 17)

- Ans 1. (12, 240, 17)
 2. (12, 300, 19)
 3. (17, 380, 19)
 4. (13, 320, 19)

Question ID : 26433076545

Status : Answered

Chosen Option : 4

Q.7 उस विकल्प का चयन कीजिए जो नीचे दिए गए शब्दों के उस क्रम को निरूपित करता है जिस क्रम में वे अंग्रेजी शब्दकोश में आते हैं।

1. FAWN
2. FAVOUR
3. FATHER
4. FATIGUE
5. FAT
6. FATE

Ans 1. 2, 6, 3, 4, 5, 1

2. 5, 6, 3, 4, 2, 1

3. 5, 3, 6, 4, 1, 2

4. 6, 4, 3, 2, 1, 5

Question ID : 26433079381

Status : Answered

Chosen Option : 2

Q.8 दर्पण को चित्र में दिखाए अनुसार MN पर रखे जाने पर दी गई आकृति के सही

दर्पण प्रतिबिंब का चयन करें।

g h i ! c 7 L d

M
|
N

Ans 1. b J 7 c ! h g

2. b J 7 c ! h g

3. p h i ! c 7 L b

4. b 7 c ! h i g

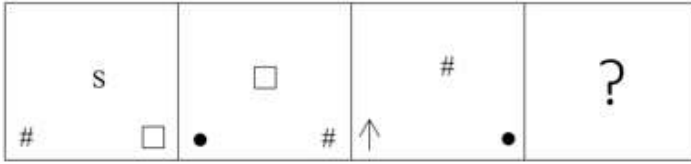
Question ID : 26433082330

Status : Answered

Chosen Option : 1


Q.9 दिए गए विकल्पों में से उस आकृति का चयन करें जो निम्न श्रृंखला में

प्रश्नवाचक चिन्ह (?) के स्थान पर आ सकती है।




Ans


✓ 1.



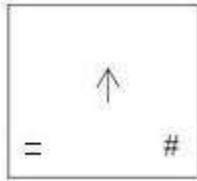
✗ 2.



✗ 3.



✗ 4.



Question ID : 26433080762

Status : Answered

Chosen Option : 1

Q.10 एक निश्चित कूट भाषा में 'POWDER' को 'QPXEFS' के रूप में लिखा जाता है और 'SHAMPOO' को 'TIBNQPP' के रूप में लिखा जाता है। उसी भाषा में 'PERFUME' को किस प्रकार लिखा जाएगा?

Ans ✗ 1. QFSNGVF

✗ 2. QFSFGVN

✗ 3. QFSGNVF

✓ 4. QFSGVNF

Question ID : 26433068227

Status : Answered

Chosen Option : 4

Q.11 निम्नलिखित में से कौन सा विकल्प दी गई श्रृंखला में प्रश्न चिह्न (?) को प्रतिस्थापित करेगा?
52, 86, 121, ?, 194, 232

Ans 1. 157

2. 141

3. 176

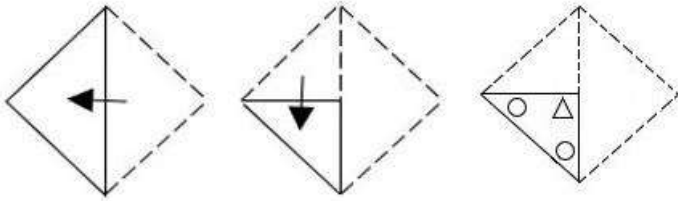
4. 155

Question ID : 26433089440

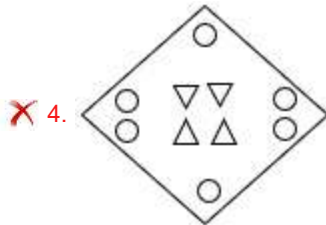
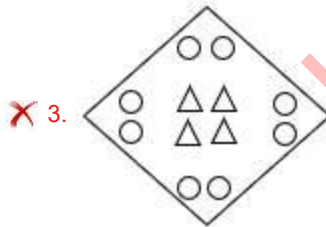
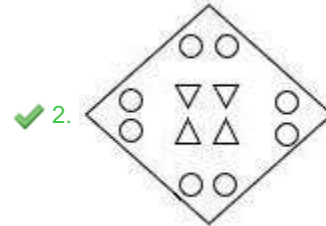
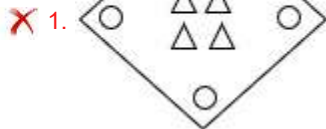
Status : Answered

Chosen Option : 1

Q.12 एक कागज को नीचे दर्शाए गए अनुसार मोड़ा और काटा जाता है। खोले जाने पर यह कैसा दिखाई देगा?



Ans



Question ID : 26433090091

Status : Answered

Chosen Option : 2

Q.13 एक निश्चित कूट भाषा में, 'FACTOR' को 'DBGTQV' के रूप में लिखा जाता है और 'FAMILY' को 'NBGANK' के रूप में लिखा जाता है। उसी भाषा में 'FATHER' को कैसे लिखा जाएगा?

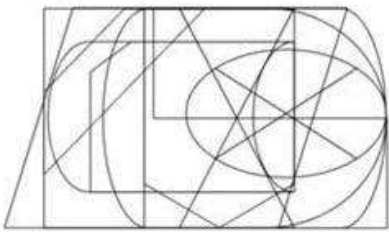
- Ans
- 1. TAFREH
 - 2. UBGREH
 - 3. UBGTGJ
 - 4. REHTAF

Question ID : 26433090044

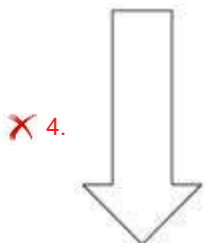
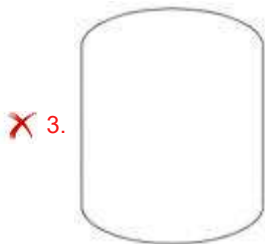
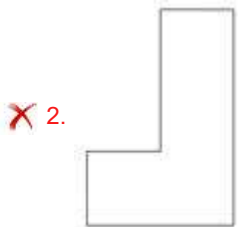
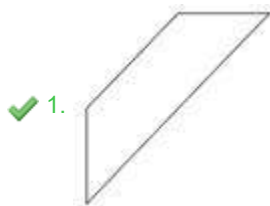
Status : Answered

Chosen Option : 3

Q.14 उस विकल्प आकृति का चयन करें जो नीचे दी गई आकृति में अंतर्निहित है।
(आकृति घुमाने की अनुमति नहीं है)



Ans



KD Job Updates

Question ID : 26433085741

Status : Answered

Chosen Option : 1

Q.15 नीचे दिए गए समीकरण को गणितीय रूप से सही बनाने के लिए किन दो चिन्हों को परस्पर बदलना चाहिए?

$$35 + 21 - 192 \div 32 \times 7 = 154$$

- Ans
- 1. - और +
 - 2. ÷ और -
 - 3. + और ÷
 - 4. × और -

Question ID : 264330117558

Status : Answered

Chosen Option : 4

Q.16 तीन कथनों के बाद तीन निष्कर्ष I, II और III दिए गए हैं। कथनों को सत्य मानते हुए, भले ही वे सामान्य रूप से ज्ञात तथ्यों से भिन्न प्रतीत होते हों, निर्णय लीजिए कि कौन-सा/से निष्कर्ष कथनों का तार्किक रूप से अनुसरण करता/करते है/हैं।

कथन:

सभी लड़के टमाटर हैं।

कुछ टमाटर सीढ़ियां हैं।

कोई सीढ़ी छोटी नहीं है।

निष्कर्ष:

I. कुछ लड़के टमाटर नहीं हैं।

II. कुछ सीढ़ियां टमाटर हैं।

III. कुछ लड़के सीढ़ी हैं।

- Ans
- 1. केवल निष्कर्ष III अनुसरण करता है।
 - 2. केवल निष्कर्ष I अनुसरण करता है।
 - 3. केवल निष्कर्ष II अनुसरण करता है।
 - 4. कोई भी निष्कर्ष अनुसरण नहीं करता है।

Question ID : 26433081791

Status : Answered

Chosen Option : 3

Q.17 निम्नलिखित में से उस विकल्प का चयन कीजिए, जो पाँचवें अक्षर-समूह से उसी प्रकार से संबंधित है, जिस प्रकार दूसरा अक्षर-समूह पहले अक्षर-समूह से और चौथा अक्षर-समूह तीसरे अक्षर-समूह से संबंधित है।

PEAR : EPRA :: LION : ILNO :: BEAT : ?

- Ans
- 1. HEAR
 - 2. THEF
 - 3. EBTA
 - 4. ROAR

Question ID : 26433083109

Status : Answered

Chosen Option : 3

Q.18 छः व्यक्ति दो समानांतर पंक्तियों में, प्रत्येक में 3 व्यक्ति के अनुसार इस प्रकार बैठे हैं कि आसन्न व्यक्तियों के बीच की दूरी समान है। P, O और T एक ही पंक्ति में दक्षिण की ओर मुख करके बैठे हैं। A, E और R एक ही पंक्ति में उत्तर की ओर मुख करके बैठे हैं। E अपनी पंक्ति के अंतिम दाएं सिरे पर बैठा है, और T के ठीक सामने है। A अपनी पंक्ति के अंतिम बाएं सिरे पर बैठा है, और O के ठीक सामने है। (दक्षिण की ओर मुख करके बैठे हुये व्यक्ति, उत्तर की ओर मुख करके बैठे हुये व्यक्तियों के ठीक सामने हैं)
दक्षिण की ओर मुख करके बैठे व्यक्तियों की पंक्ति के ठीक मध्य में कौन बैठा है?

- Ans 1. E
 2. P
 3. O
 4. T

Question ID : 26433068744
Status : Answered
Chosen Option : 2

Q.19 कौन-सा अक्षर-समूह दी गई श्रृंखला में प्रश्नचिह्न (?) के स्थान पर आकर श्रृंखला को पूर्ण करेगा?
FOWC, KWLI, ?, UMPU, ZUEA

- Ans 1. SEQO
 2. PEAO
 3. PWQO
 4. SDCO

Question ID : 26433079421
Status : Answered
Chosen Option : 2

Q.20 विकल्पों में दिए गए गणितीय चिह्नों का कौन सा संयोजन निम्न समीकरण में * चिह्नों के स्थान पर क्रमिक रूप से आकर समीकरण को संतुलित करेगा?
 $78 * 39 * 46 * 5 * 10 * 2$

- Ans 1. ÷, -, =, ×, +
 2. ÷, +, -, ×, =
 3. +, ÷, =, ×, -
 4. ÷, +, =, ×, -

Question ID : 26433094986
Status : Answered
Chosen Option : 4

Section : Part-B-General Knowledge and General awareness

Q.1 कार्बन की परमाणु संख्या क्या है?

- Ans 1. 7
 2. 9
 3. 8
 4. 6

Question ID : 26433066472
Status : Answered
Chosen Option : 4

Q.2 निम्नलिखित में से किसने, संवैधानिक उपचार के अधिकार को 'संविधान की आत्मा' कहा था?

- Ans
- 1. राजेंद्र प्रसाद
 - 2. बी.आर. अंबेडकर
 - 3. जवाहर लाल नेहरू
 - 4. वल्लभभाई पटेल

Question ID : 26433086802
Status : Answered
Chosen Option : 2

Q.3 विधवा पुनर्विवाह का समर्थन करने वाले बंगाली समाज सुधारक और लेखक का नाम बताइए?

- Ans
- 1. बाल गंगाधर तिलक
 - 2. ईश्वर चंद्र विद्यासागर
 - 3. बिपिन चंद्र पाल
 - 4. जवाहर लाल नेहरू

Question ID : 264330115709
Status : Answered
Chosen Option : 2

Q.4 भारतीय डाक नेटवर्क विश्व में किस लिए प्रसिद्ध है?

- Ans
- 1. यह सबसे छोटा डाक नेटवर्क है
 - 2. यह सबसे पुराना डाक नेटवर्क है
 - 3. यह सबसे सस्ता डाक नेटवर्क है
 - 4. यह सबसे बड़ा डाक नेटवर्क है

Question ID : 264330115592
Status : Answered
Chosen Option : 4

Q.5 तोरग्या, एक _____-दिवसीय मठ उत्सव है, जो अरुणाचल प्रदेश की मोनपा जनजाति द्वारा मनाया जाता है।

- Ans
- 1. चार
 - 2. सात
 - 3. छह
 - 4. तीन

Question ID : 264330115129
Status : Not Answered
Chosen Option : --

Q.6 पेशेवर खेल के लिए टेनिस रैकेट की अधिकतम लंबाई कितनी होती है?

- Ans
- 1. 29 इंच
 - 2. 30 इंच
 - 3. 40 इंच
 - 4. 35 इंच

Question ID : 26433071572

Status : Answered

Chosen Option : 2

Q.7 केरल के सबसे बड़े जलप्रपात का क्या नाम है?

- Ans
- 1. वाझाचल जलप्रपात
 - 2. दूधसागर जलप्रपात
 - 3. अथिरापिल्ली जलप्रपात
 - 4. कुंचिकल जलप्रपात

Question ID : 264330116016

Status : Answered

Chosen Option : 3

Q.8 बेंगलुरु टेक समिट 2022 का उद्घाटन किसने किया?

- Ans
- 1. नरेंद्र मोदी
 - 2. द्रौपदी मुर्मू
 - 3. सुधा केवी
 - 4. सत्या नडेला

Question ID : 264330115048

Status : Not Answered

Chosen Option : --

Q.9 किस पंचवर्षीय योजना का मुख्य फोकस भारी और बुनियादी उद्योगों का विकास तथा तीव्र औद्योगीकरण था?

- Ans
- 1. पहली
 - 2. चौथी
 - 3. तीसरी
 - 4. दूसरी

Question ID : 264330116138

Status : Answered

Chosen Option : 4

Q.10 मौर्योत्तर काल में, _____ वे पुरुष और महिलाएं थे, जिनके पास जमीनें नहीं थी।

- Ans
- 1. गृहपति
 - 2. ग्राम भोजक
 - 3. भूमिहार
 - 4. दास कर्मकार

Question ID : 26433085225

Status : Answered

Chosen Option : 3

Q.11 राष्ट्रिय आय को _____ की तरह परिभाषित किया जाता है।

- Ans
- 1. कारक लागत पर एन. एन. पी.
 - 2. कारक लागत पर जी. एन. पी.
 - 3. एन. एन. पी.
 - 4. बाजार मूल्य पर जी. एन. पी.

Question ID : 264330115345

Status : Not Answered

Chosen Option : --

Q.12 चुनाव आयोग _____, राज्य विधानमंडल और राष्ट्रपति एवं उपराष्ट्रपति के पदों के लिए चुनाव का संचालन करता है।

- Ans
- 1. डेप्युटी स्पीकर
 - 2. संसद
 - 3. स्पीकर
 - 4. प्रधानमंत्री

Question ID : 26433086834

Status : Answered

Chosen Option : 2

Q.13 हरित क्रांति के परिणामस्वरूप, भारत में, खाद्य फसलों का आयात _____ था।

- Ans
- 1. बढ़ गया
 - 2. प्रतिबंधित
 - 3. कम हो गया
 - 4. अप्रभावित रहा

Question ID : 264330115426

Status : Answered

Chosen Option : 1

Q.14 जनगणना 2011 के अनुसार देश का दूसरा सबसे कम जनसंख्या वाला राज्य कौन-सा है?

- Ans
- 1. अरुणाचल प्रदेश
 - 2. मेघालय
 - 3. मिज़ोरम
 - 4. सिक्किम

Question ID : 264330116052

Status : Answered

Chosen Option : 1

Q.15 अटलांटा के मेयर ने, किस नृत्य गुरु के सम्मान में 3 नवंबर 1994 को कुचिपुड़ी नृत्य नाट्य दिवस घोषित किया था?

- Ans
- 1. वेम्पति चिन्ना सत्यम
 - 2. एन राजम
 - 3. उदय शंकर
 - 4. जिया मोहिउद्दीन डागर

Question ID : 264330115843

Status : Answered

Chosen Option : 1

Q.16 भारत के किस केंद्रीय मंत्री ने 2022 में ट्रांसपोर्ट 4 ऑल चैलेंज स्टेज-2 का शुभारंभ किया?

- Ans
- 1. हरदीप सिंह पुरी
 - 2. राज कुमार सिंह
 - 3. धर्मेन्द्र प्रधान
 - 4. सर्बानंद सोनोवाल

Question ID : 264330114964

Status : Answered

Chosen Option : 4

Q.17 भारतीय जिम्नास्ट दीपा कर्माकर ने किस वर्ष ओलंपिक में भाग लिया था?

- Ans
- 1. 2016
 - 2. 2008
 - 3. 2012
 - 4. 2020

Question ID : 26433092328

Status : Answered

Chosen Option : 1

Q.18 आयरन की कमी से क्या होता है?

- Ans
- 1. थाइरोइड
 - 2. हाइपोकैल्शियमिया
 - 3. एनीमिया
 - 4. काशिओरकोर

Question ID : 264330115226

Status : Answered

Chosen Option : 3

Q.19 स्किल इंडिया, विभिन्न उद्योग से संबंधित नौकरियों में 40 करोड़ से अधिक भारतीयों को प्रशिक्षित करने के लिए सरकार द्वारा _____ में शुरू की गई एक पहल है।

- Ans
- 1. 2010
 - 2. 2015
 - 3. 2012
 - 4. 2017

Question ID : 264330116189

Status : Answered

Chosen Option : 4

Q.20 पंडित बिरजू महाराज निम्नलिखित में से किस नृत्य शैली से संबंधित थे?

- Ans
- 1. कथक
 - 2. मणिपुरी
 - 3. ओडिसी
 - 4. कुचिपुड़ी

Question ID : 26433071452

Status : Answered

Chosen Option : 1

Section : Part-C-Elementary Mathematics

Q.1 वन्यजीव गणना के अनुसार राजस्थान में 2021 में 550 तेंदुएं थे। यदि अगले वर्ष इसके 2 प्रतिशत बढ़ने की संभावना है, तो वर्ष 2022 में तेंदुओं की आबादी कितनी है?

- Ans
- 1. 581
 - 2. 566
 - 3. 561
 - 4. 578

Question ID : 264330116793

Status : Answered

Chosen Option : 3

Q.2 एक व्यापारी किसी वस्तु को अंकित मूल्य पर 15% की छूट देकर बेचने पर 10% का लाभ प्राप्त करता है। क्रय मूल्य और अंकित मूल्य का अनुपात क्या है?

- Ans
- 1. 17:22
 - 2. 15:22
 - 3. 12:17
 - 4. 13:21

Question ID : 26433075470

Status : Answered

Chosen Option : 1

Q.3 दो ट्रेनें एक ही समय में विजयवाड़ा और कलकत्ता से प्रस्थान करती हैं और क्रमशः 24 km/h और 42 km/h की चाल से एक-दूसरे की ओर बढ़ती हैं। जब वे मिलती हैं, तो पता चलता है कि एक ट्रेन ने दूसरी से 140 km अधिक यात्रा की है। दो स्टेशनों के बीच की दूरी कितनी है? (दो दशमलव स्थान तक मान लें)

- Ans
- 1. 540.33 km
 - 2. 413.33 km
 - 3. 510.33 km
 - 4. 513.33 km

Question ID : 26433081043

Status : Answered

Chosen Option : 4

Q.4 जॉन का मासिक व्यय उसके मासिक वेतन का 85% है और जैक का मासिक व्यय उसके मासिक वेतन का 90% है। इनका संयुक्त व्यय 88% है। यदि जॉन का मासिक वेतन ₹60,000 है, तो जैक का मासिक वेतन क्या है?

- Ans
- 1. ₹70,000
 - 2. ₹90,000
 - 3. ₹1,00,000
 - 4. ₹80,000

Question ID : 26433079912

Status : Not Answered

Chosen Option : --

Q.5 $\{8.4 \div 12 \times [(27 - 6)^2 \div 3] (7 - 5)\}$ को हल कीजिए।

- Ans
- 1. 176.4
 - 2. 205.8
 - 3. 182.4
 - 4. 132.5

Question ID : 26433079990

Status : Answered

Chosen Option : 2

Q.6 यदि एक बेलन के आधार का व्यास और ऊँचाई क्रमशः 16 cm और 20 cm है, तो बेलन का कुल पृष्ठीय क्षेत्रफल क्या होगा? ($\pi=22/7$ का उपयोग करें)

- Ans
- 1. 1428 cm²
 - 2. 1408 cm²
 - 3. 1454 cm²
 - 4. 1488 cm²

Question ID : 26433075711

Status : Answered

Chosen Option : 2

Q.7 10000 रुपए के बिल पर लागू। 32 प्रतिशत की छूट और 20 प्रतिशत और 12 प्रतिशत की दो क्रमिक छूट के बीच का अंतर है:

- Ans
- 1. 240 रुपए
 - 2. 260 रुपए
 - 3. 180 रुपए
 - 4. 190 रुपए

Question ID : 264330116758

Status : Answered

Chosen Option : 1

Q.8 यदि 45 आदमी किसी काम को 30 घंटे में कर सकते हैं, तो 20 आदमी उसी काम को कितने घंटे में करेंगे?

- Ans
- 1. 65.5
 - 2. 67.5
 - 3. 52.0
 - 4. 45.0

Question ID : 26433075950

Status : Answered

Chosen Option : 2

Q.9 A उतना ही कार्य कर सकता है जितना B और C मिलकर कर सकते हैं। A और B मिलकर एक कार्य को 7 घंटे 12 मिनट में कर सकते हैं और C उसी कार्य को 36 घंटे में कर सकता है। B को अकेले कार्य करने में लगने वाला समय (घंटों में) ज्ञात करें।

- Ans
- 1. 18 घंटे
 - 2. 13 घंटे
 - 3. 14 घंटे
 - 4. 15 घंटे

Question ID : 264330116873

Status : Not Answered

Chosen Option : --

Q.10 दो बाल्टियां दूध और पानी से 4 : 1 और 7 : 2 के अनुपात में भरी जाती हैं। यदि इन मिश्रणों को क्रमशः 1 : 5 के अनुपात में मिलाया जाता है, तो परिणामी मिश्रण में पानी और दूध का अनुपात ज्ञात करें।

- Ans
- 1. 34 : 211
 - 2. 59 : 111
 - 3. 211 : 59
 - 4. 59 : 211

Question ID : 26433075792
Status : Answered
Chosen Option : 4

Q.11 16 m, 14 m और 10 m एक कमरे की विमाएँ हैं। सभी विमाओं को यथार्थतः मापने के लिए सबसे बड़े पैमाने की लंबाई ज्ञात करें।

- Ans
- 1. 2 m
 - 2. 4 m
 - 3. 10 m
 - 4. 3 m

Question ID : 26433090275
Status : Answered
Chosen Option : 1

Q.12 रेवंत ने 8 कमीजें Rs.480 के कुल लाभ पर और 12 कमीजें Rs.160 के कुल लाभ पर बेचीं। उसे शेष 20 कमीजें प्रति कमीज कितने लाभ पर बेचनी चाहिए कि उसे प्रति कमीज Rs.20 का औसत लाभ प्राप्त हो?

- Ans
- 1. Rs.4
 - 2. Rs.6
 - 3. Rs.8
 - 4. Rs.2

Question ID : 26433073007
Status : Answered
Chosen Option : 3

Q.13 कुलदीप एक कार्य को करने में मनीष से दोगुना कुशल है। एक साथ कार्य करते हुए वे 36 दिनों में एक कार्य को पूरा कर सकते हैं। कुलदीप अकेले उस कार्य को _____ में पूरा कर सकता है।

- Ans
- 1. 54 दिनों
 - 2. 50 दिनों
 - 3. 56 दिनों
 - 4. 52 दिनों

Question ID : 26433076430
Status : Answered
Chosen Option : 1

Q.14 एक बैंक से ₹10,000 की राशि 6% वार्षिक की दर से ली जाती है, जो अर्धवार्षिक रूप से चक्रवृद्धि होती है। डेढ़ वर्ष बाद कितनी राशि वापस लौटानी होगी?

- Ans
- ✓ 1. ₹10,927
 - ✗ 2. ₹10,215
 - ✗ 3. ₹10,567
 - ✗ 4. ₹10,879

Question ID : 26433085763

Status : Answered

Chosen Option : 1

Q.15 यदि कोई व्यक्ति 10 किमी/घंटा की चाल से दौड़ता है, तो वह 300 मीटर की दूरी तय करने में कितना समय लेगा?

- Ans
- ✗ 1. 4 मिनट
 - ✗ 2. 8 मिनट
 - ✗ 3. 5 मिनट
 - ✓ 4. 1 मिनट 48 सेकंड

Question ID : 26433075392

Status : Answered

Chosen Option : 4

Q.16 यदि एक गोले की त्रिज्या 70 फुट है, तो उसका पृष्ठीय क्षेत्रफल ज्ञात कीजिए। ($\pi = \frac{22}{7}$) का प्रयोग कीजिए

- Ans
- ✗ 1. 43200 फुट²
 - ✗ 2. 53124 फुट²
 - ✗ 3. 71542 फुट²
 - ✓ 4. 61600 फुट²

Question ID : 26433080064

Status : Answered

Chosen Option : 4

Q.17 एक मूलधन 8% वार्षिक की चक्रवृद्धि ब्याज दर से 2 वर्षों में ₹1,458 हो जाता है और संयोजन वार्षिक रूप से किया गया है। मूलधन क्या है?

- Ans
- ✗ 1. ₹1,210
 - ✓ 2. ₹1,250
 - ✗ 3. ₹1,280
 - ✗ 4. ₹1,180

Question ID : 26433080129

Status : Answered

Chosen Option : 2

Q.18 राम यातायात में 20 घंटे में 500 km की दूरी तय करता है; उसने कुछ दूरी बाइक से 30 km/h की चाल से तय की और शेष दूरी कार से 20 km/h की चाल से तय की। बाइक द्वारा तय की गई दूरी (km में) _____ है।

- Ans 1. 300
 2. 200
 3. 250
 4. 100

Question ID : 26433079914
Status : Answered
Chosen Option : 3

Q.19 एक व्यक्ति एक रुपये में 25 वस्तुओं को बेचकर 20% लाभ कमाता है। उसने एक रुपये में कितनी वस्तु खरीदी थी?

- Ans 1. 30
 2. 25
 3. 40
 4. 35

Question ID : 26433075495
Status : Answered
Chosen Option : 2

Q.20 एक संख्या में पहले 20% की वृद्धि की जाती है और फिर 20% की कमी की जाती है। संख्या में प्रतिशत परिवर्तन क्या होगा?

- Ans 1. 4% की कमी होती है
 2. कोई परिवर्तन नहीं होता है
 3. 2% की वृद्धि होती है
 4. 4% की वृद्धि होती है

Question ID : 26433075139
Status : Answered
Chosen Option : 1

Section : Part-D-English

Q.1 Select the most appropriate ANTONYM of the given word.

Vicinity

- Ans 1. Adjacent
 2. Natural
 3. Remote
 4. Proximity

Question ID : 26433072215
Status : Not Answered
Chosen Option : --

Q.2 Select the most appropriate ANTONYM of the given word.

Jaded

- Ans
- 1. Unflinching
 - 2. Settled
 - 3. Renewed
 - 4. Impressed

Question ID : 26433091821
Status : Not Answered
Chosen Option : --

Q.3 Select the most appropriate meaning of the given idiom.

Bone to pick

- Ans
- 1. Having a complaint that needs to be discussed
 - 2. Having a fond memory to tell
 - 3. Cleaning the floor for any garbage
 - 4. Making a feast

Question ID : 26433084602
Status : Not Answered
Chosen Option : --

Q.4 Select the most appropriate option that can substitute the underlined segment in the given sentence.

The student repeatedly referred about one particular author during his presentation.

- Ans
- 1. referred to one particular
 - 2. referenced on one particular
 - 3. referred of one particular
 - 4. referred for one particular

Question ID : 26433091965
Status : Not Answered
Chosen Option : --

Q.5 Select the INCORRECTLY spelt word.

- Ans
- 1. Miniature
 - 2. Millennium
 - 3. Condolance
 - 4. Irrelevant

Question ID : 26433073737
Status : Not Answered
Chosen Option : --

Q.6 Select the most appropriate meaning of the underlined idiom that can be substituted in the following sentence.

The fate of the accused hangs in the balance.

- Ans 1. remains undecided
 2. gets a fair decision
 3. gets a very fast decision
 4. gets an unfair decision

Question ID : 26433072231
Status : Not Answered
Chosen Option : --

Q.7 The sentence given below has one misspelt word. Spot the INCORRECTLY spelt word and select its correct spelling.

Ashish was flabbergasted when we told him about our latest achievement.

- Ans 1. Flabergasted
 2. Fabbergasted
 3. Flabbergasted
 4. Flabergested

Question ID : 26433073549
Status : Not Answered
Chosen Option : --

Q.8 Select the correct pair of synonyms to fill in the blanks.

Seema was shivering, and her body was almost _____ due to the long exposure to _____ winds from the mountains.

- Ans 1. frozen, icy
 2. warm, steamy
 3. wet, humid
 4. dry, arid

Question ID : 26433061052
Status : Not Answered
Chosen Option : --

Q.9 Select the most appropriate option to fill in the blanks and make the sentence meaningful.

The _____ from my window is of the _____.

- Ans 1. seen; sea
 2. scene; sea
 3. scene; see
 4. seen; see

Question ID : 26433092100
Status : Not Answered
Chosen Option : --

Q.10 Select the most appropriate synonym of the given word.

Immune

- Ans 1. Resistant
 2. Sensitive
 3. Provoked
 4. Vulnerable

Question ID : 26433088202
Status : Not Answered
Chosen Option : --

Q.11 Select the most appropriate option that can substitute the underlined segment in the given sentence. If there is no need to substitute it, select 'No substitution'.
The young girl was so afraid of her seniors that she refused to go to school.

- Ans 1. so afraid over her seniors
 2. No substitution
 3. so afraid at her seniors
 4. so afraid to her seniors

Question ID : 26433093076
Status : Not Answered
Chosen Option : --

Q.12 Select the most appropriate synonym of the underlined word.

It was a perilous journey.

- Ans 1. Tremendous
 2. Loud
 3. Nasty
 4. Dangerous

Question ID : 26433088763
Status : Not Answered
Chosen Option : --

Q.13 Select the correct option to substitute the underlined segment in the given sentence. If no substitution is required, select 'No substitution'.

They is going to Delhi with their friends.

- Ans 1. No substitution
 2. was going
 3. will going
 4. are going

Question ID : 26433090805
Status : Not Answered
Chosen Option : --

Q.14 Select the most appropriate homonym of the given word.
Idol

- Ans 1. Idle
 2. dull
 3. doll
 4. eye lid

Question ID : 26433086348

Status : Not Answered

Chosen Option : --

Q.15 The following sentence has been split into four segments. Identify the segment that contains a grammatical error.

The teacher will / certainly help you / if you will / ask her.

- Ans 1. The teacher will
 2. certainly help you
 3. ask her
 4. if you will

Question ID : 264330108877

Status : Not Answered

Chosen Option : --

Comprehension:

In the following passage, some words have been deleted. Read the passage carefully and select the most appropriate option to fill in each blank.

A beautiful spectacle for anyone to (1)_____ would be the crowds that throng to see the Indian cricket team playing, whether it be in India or in other parts of the globe. This (2)_____ is the occasion where the spirit of oneness is all pervasive. India with all its diversity (3)_____ be seen either rejoicing or moaning depending on the sway of the game (4)_____ watched. Unity in diversity is (5)_____ in all its glory.

SubQuestion No : 16

Q.16 Select the most appropriate option to fill in blank number 1.

- Ans 1. tarnish
 2. vanish
 3. sold
 4. behold

Question ID : 26433091788

Status : Not Answered

Chosen Option : --

Comprehension:

In the following passage, some words have been deleted. Read the passage carefully and select the most appropriate option to fill in each blank.

A beautiful spectacle for anyone to (1)_____ would be the crowds that throng to see the Indian cricket team playing, whether it be in India or in other parts of the globe. This (2)_____ is the occasion where the spirit of oneness is all pervasive. India with all its diversity (3)_____ be seen either rejoicing or moaning depending on the sway of the game (4)_____ watched. Unity in diversity is (5)_____ in all its glory.

SubQuestion No : 17

Q.17 Select the most appropriate option to fill in blank number 2.

- Ans** 1. undoubtedly
 2. doubtfully
 3. indefinitely
 4. ruthlessly

Question ID : 26433091789

Status : Not Answered

Chosen Option : --

Comprehension:

In the following passage, some words have been deleted. Read the passage carefully and select the most appropriate option to fill in each blank.

A beautiful spectacle for anyone to (1)_____ would be the crowds that throng to see the Indian cricket team playing, whether it be in India or in other parts of the globe. This (2)_____ is the occasion where the spirit of oneness is all pervasive. India with all its diversity (3)_____ be seen either rejoicing or moaning depending on the sway of the game (4)_____ watched. Unity in diversity is (5)_____ in all its glory.

SubQuestion No : 18

Q.18 Select the most appropriate option to fill in blank number 3.

- Ans** 1. could
 2. shan't
 3. shouldn't
 4. won't

Question ID : 26433091790

Status : Not Answered

Chosen Option : --

Comprehension:

In the following passage, some words have been deleted. Read the passage carefully and select the most appropriate option to fill in each blank.

A beautiful spectacle for anyone to (1)_____ would be the crowds that throng to see the Indian cricket team playing, whether it be in India or in other parts of the globe. This (2)_____ is the occasion where the spirit of oneness is all pervasive. India with all its diversity (3)_____ be seen either rejoicing or moaning depending on the sway of the game (4)_____ watched. Unity in diversity is (5)_____ in all its glory.

SubQuestion No : 19

Q.19 Select the most appropriate option to fill in blank number 4.

- Ans 1. being
 2. going
 3. seeing
 4. on

Question ID : 26433091791

Status : Not Answered

Chosen Option : --

Comprehension:

In the following passage, some words have been deleted. Read the passage carefully and select the most appropriate option to fill in each blank.

A beautiful spectacle for anyone to (1)_____ would be the crowds that throng to see the Indian cricket team playing, whether it be in India or in other parts of the globe. This (2)_____ is the occasion where the spirit of oneness is all pervasive. India with all its diversity (3)_____ be seen either rejoicing or moaning depending on the sway of the game (4)_____ watched. Unity in diversity is (5)_____ in all its glory.

SubQuestion No : 20

Q.20 Select the most appropriate option to fill in blank number 5.

- Ans 1. redressed
 2. terraced
 3. procured
 4. witnessed

Question ID : 26433091792

Status : Not Answered

Chosen Option : --

Section : Part-D-Hindi

Q.1 निम्न वाक्य में रिक्त स्थान की पूर्ति उपयुक्त संज्ञा शब्द से करें।
जीवन में _____ होना अति आवश्यक है।

- Ans 1. आप
 2. मधुरता
 3. अपना
 4. कोई

Question ID : 26433085024

Status : Answered

Chosen Option : 2

Q.2 निम्नलिखित मुहावरे के लिए उपयुक्त अर्थ क्या होगा?
उल्टी गंगा बहाना

- Ans
- 1. नियम के विरुद्ध काम करना
 - 2. नदी की धारा को मोड़ देना
 - 3. बिना मतलब की बातें करना
 - 4. दूसरों की वस्तु चुरा लेना

Question ID : 26433065775

Status : Answered

Chosen Option : 1

Q.3 नीचे दिए गए वाक्य में रेखांकित अंश के स्थान पर सबसे उपयुक्त विकल्प कौन-सा होगा?
हमें अपने माता-पिता की शुश्रूषा करनी चाहिए।

- Ans
- 1. भक्ति
 - 2. गुस्सा
 - 3. सेवा
 - 4. नौकरी

Question ID : 26433066715

Status : Answered

Chosen Option : 3

Q.4 'कौरवों के चक्रव्यूह के कारण अल्पायु में अभिमन्यु को वीरगति मिली।' वाक्य में प्रयुक्त 'अल्पायु' का विलोम शब्द होगा-

- Ans
- 1. लघुआयु
 - 2. विरक्ति
 - 3. चिरंजीव
 - 4. चिरायु

Question ID : 26433069744

Status : Answered

Chosen Option : 3

Q.5 निम्न वाक्य में रेखांकित शब्द के स्थान पर सर्वोचित विकल्प चुनिए।
सूखा पड़ गया है, इसलिए इस बार हरियाली कम है।

- Ans
- 1. फसल
 - 2. समृद्धि
 - 3. उत्पादन
 - 4. मेहनत

Question ID : 26433084959

Status : Answered

Chosen Option : 1

Q.6 निम्नलिखित वाक्यांशों के लिए उपयुक्त शब्द का चयन विकल्पों में से कीजिए।
बिजली की तरह चमकने वाला

- Ans
- 1. विद्युतगामी
 - 2. विद्युत्प्रभ
 - 3. आकाशवृत्ति
 - 4. जाजुल्यमान

Question ID : 26433069996

Status : Answered

Chosen Option : 2

Q.7 निम्नलिखित वाक्यांश के लिए एक सार्थक शब्द चुनिए।
दूसरों का भला चाहने वाला

- Ans
- 1. पार्थिव
 - 2. वादी
 - 3. परार्थी
 - 4. स्वार्थी

Question ID : 26433062736

Status : Answered

Chosen Option : 3

Q.8 'महाभारत के युद्ध में कृष्ण ने कौरवों की मदद के लिए ग्यारह अक्षोहिणी सेनाएं दी थीं।' वाक्य में अशुद्ध
वर्तनी वाला शब्द निम्न में से कौन सा है?

- Ans
- 1. महाभारत
 - 2. कौरवों
 - 3. कृष्ण
 - 4. अक्षोहिणी

Question ID : 26433069697

Status : Answered

Chosen Option : 4

Q.9 निम्नलिखित शब्द के सही वर्तनी वाले पर्यायवाची शब्द का चयन कीजिए।
किरण

- Ans
- 1. अंसु
 - 2. रश्मि
 - 3. रस्मि
 - 4. किरन

Question ID : 26433066937

Status : Not Answered

Chosen Option : --

Q.10 नीचे दिए गए मुहावरे में रेखांकित अंश के स्थान पर सबसे उपयुक्त विकल्प कौन-सा होगा?
'एक और एक बारह होना'

- Ans
- 1. नौ
 - 2. ग्यारह
 - 3. तेरह
 - 4. दस

Question ID : 26433066740
Status : Answered
Chosen Option : 2

Q.11 उसने तरह – तरह के चमड़े के जूते खरीदे।
उपरोक्त वाक्य का शुद्ध रूप क्या होगा?

- Ans
- 1. उसने चमड़े के अलग – अलग जूता खरीदे।
 - 2. वह तरह – तरह के चमड़े जूते खरीदे।
 - 3. उन्होंने तरह – तरह की चमड़े जूते खरीदीं।
 - 4. उसने चमड़े के तरह – तरह के जूते खरीदे।

Question ID : 26433079235
Status : Answered
Chosen Option : 4

Q.12 निम्न में से किस वाक्य में 'अचल' के सही पर्यायवाची शब्द का प्रयोग हुआ है?

- Ans
- 1. अस्थिरता उसके स्वभाव की विशेषता है।
 - 2. उसके चित्त की अवस्था दोलायमान थी।
 - 3. वह अपने निर्णय पर अटल रहा।
 - 4. शुभदा बहुत चंचल है।

Question ID : 26433067010
Status : Answered
Chosen Option : 3

Q.13 निम्न विकल्पों में से अशुद्ध योगरूढ़ संज्ञा शब्द क्रम पहचानिए।

- Ans
- 1. पंकज, जलज, चक्रपाणि
 - 2. गिरिधर, पंचानन, नीरद
 - 3. लंबाउदर, दशोनन, पीताम्बर
 - 4. चतुर्भुज, चतुरानन, नीलकंठ

Question ID : 26433079225
Status : Answered
Chosen Option : 3

Q.14 'जिसे जीता न जा सके' वाक्यांश के लिए उचित शब्द बताइए-

- Ans
- 1. अजातशत्रु
 - 2. विजयी
 - 3. अजेय
 - 4. विजेता

Question ID : 26433065905

Status : Answered

Chosen Option : 3

Q.15 निम्नलिखित वाक्य में रेखांकित शब्द का विलोम बताइए।
दिनकर समाज के लिए 'परमार्थ' का कार्य करता है।

- Ans
- 1. सेवक
 - 2. सुकार्य
 - 3. निस्वार्थ
 - 4. स्वार्थ

Question ID : 26433085076

Status : Answered

Chosen Option : 4

KD Job Updates

Comprehension:

प्रश्न 1 से 5 तक के उत्तर निम्नांकित गद्यावतरण के आधार पर दीजिए।
संसार के समस्त जीवों में मनुष्य को श्रेष्ठ माना गया है, क्योंकि वह अन्य जीवों की अपेक्षा अधिक 1. _____ और विवेकशील है। वह केवल वर्तमान की ही नहीं सोचता बल्कि भविष्य के बारे में विचार करता है। वह केवल अपनी ओर ध्यान नहीं देता वरन् दूसरों का भी खयाल रखता है। उसमें उचित और अनुचित का ज्ञान कराने वाली बुद्धि होती है। इसी आधार पर बुद्धि के दो पक्ष हैं : एक सुबुद्धि और दूसरी दुर्बुद्धि। सुबुद्धि की बड़ी महिमा है। इसी को सुमति अर्थात् अच्छी मति भी कहा जाता है। जब तक मनुष्य में सुमति रहती है तब तक उसमें अच्छे – बुरे का विवेक भी होता है। जब वह सुमति से हटकर कुमति या दुर्बुद्धि में आ जाता है तब वह बुरे एवं अनुचित कार्य में लग जाता है। सुमति के द्वारा 2. _____ की भी प्राप्ति होती है अर्थात् उसे धन, सम्मान, स्त्री, पुत्र आदि का सुख मिलता है। इन सभी की प्राप्ति विवेक अथवा सुबुद्धि द्वारा संभव है। जो लोग मिल – जुलकर और 3. _____ से कार्य करते हैं उन पर लक्ष्मी की कृपा रहती है। उन्हें सभी की ओर से आदर मिलता है। इससे उनमें ऐसी शक्ति पैदा होती है जिससे वे देश, जाति और परिवार को गौरवमय बनाते हैं। सुमति ही सफलता की जननी है। जीवन में वही व्यक्ति सफल होता है जो कठिन से कठिन परिस्थितियों में अपनी बुद्धि पर विश्वास रखता है तथा है परिश्रम, ईमानदारी और विवेक से काम करता है। सभी का आदर करना, बड़ों के प्रति अप्रिय न बोलना, सभी से नम्र और 4. _____ बने रहना सुमति के अंतर्गत आते हैं। जहाँ सुमति नहीं रहती वहाँ दंभ, अहंकार, क्रोध और अधैर्य का साम्राज्य रहता है। सुमति – हीन लोगों से संपत्ति भी 5. _____ दूर रहती है और वे विपत्तियों में घिरे रहते हैं।

SubQuestion No : 16

Q.16 'बुद्धिमती' के पुल्लिंग शब्द से रिक्त स्थान 1 की पूर्ति कीजिए।

- Ans
- 1. बुद्धिजीवी
 - 2. बुद्धिहीन
 - 3. बुद्धिमान
 - 4. बुद्धिवादी

Question ID : 26433080951

Status : Answered

Chosen Option : 1

Comprehension:

प्रश्न 1 से 5 तक के उत्तर निम्नांकित गद्यावतरण के आधार पर दीजिए।
संसार के समस्त जीवों में मनुष्य को श्रेष्ठ माना गया है, क्योंकि वह अन्य जीवों की अपेक्षा अधिक 1. _____ और विवेकशील है। वह केवल वर्तमान की ही नहीं सोचता बल्कि भविष्य के बारे में विचार करता है। वह केवल अपनी ओर ध्यान नहीं देता वरन् दूसरों का भी खयाल रखता है। उसमें उचित और अनुचित का ज्ञान कराने वाली बुद्धि होती है। इसी आधार पर बुद्धि के दो पक्ष हैं : एक सुबुद्धि और दूसरी दुर्बुद्धि। सुबुद्धि की बड़ी महिमा है। इसी को सुमति अर्थात् अच्छी मति भी कहा जाता है। जब तक मनुष्य में सुमति रहती है तब तक उसमें अच्छे – बुरे का विवेक भी होता है। जब वह सुमति से हटकर कुमति या दुर्बुद्धि में आ जाता है तब वह बुरे एवं अनुचित कार्य में लग जाता है। सुमति के द्वारा 2. _____ की भी प्राप्ति होती है अर्थात् उसे धन, सम्मान, स्त्री, पुत्र आदि का सुख मिलता है। इन सभी की प्राप्ति विवेक अथवा सुबुद्धि द्वारा संभव है। जो लोग मिल – जुलकर और 3. _____ से कार्य करते हैं उन पर लक्ष्मी की कृपा रहती है। उन्हें सभी की ओर से आदर मिलता है। इससे उनमें ऐसी शक्ति पैदा होती है जिससे वे देश, जाति और परिवार को गौरवमय बनाते हैं। सुमति ही सफलता की जननी है। जीवन में वही व्यक्ति सफल होता है जो कठिन से कठिन परिस्थितियों में अपनी बुद्धि पर विश्वास रखता है तथा है परिश्रम, ईमानदारी और विवेक से काम करता है। सभी का आदर करना, बड़ों के प्रति अप्रिय न बोलना, सभी से नम्र और 4. _____ बने रहना सुमति के अंतर्गत आते हैं। जहाँ सुमति नहीं रहती वहाँ दंभ, अहंकार, क्रोध और अधैर्य का साम्राज्य रहता है। सुमति – हीन लोगों से संपत्ति भी 5. _____ दूर रहती है और वे विपत्तियों में घिरे रहते हैं।

SubQuestion No : 17

Q.17 'दौलत' के पर्यायवाची शब्द से रिक्त स्थान 2 की पूर्ति कीजिए।

- Ans
- 1. ऐश - आराम
 - 2. विपत्ति
 - 3. संपत्ति
 - 4. भोग - विलास

Question ID : 26433080952

Status : Answered

Chosen Option : 3

Comprehension:

प्रश्न 1 से 5 तक के उत्तर निम्नांकित गद्यावतरण के आधार पर दीजिए। संसार के समस्त जीवों में मनुष्य को श्रेष्ठ माना गया है, क्योंकि वह अन्य जीवों की अपेक्षा अधिक 1. _____ और विवेकशील है। वह केवल वर्तमान की ही नहीं सोचता बल्कि भविष्य के बारे में विचार करता है। वह केवल अपनी ओर ध्यान नहीं देता वरन् दूसरों का भी खयाल रखता है। उसमें उचित और अनुचित का ज्ञान कराने वाली बुद्धि होती है। इसी आधार पर बुद्धि के दो पक्ष हैं : एक सुबुद्धि और दूसरी दुर्बुद्धि। सुबुद्धि की बड़ी महिमा है। इसी को सुमति अर्थात् अच्छी मति भी कहा जाता है। जब तक मनुष्य में सुमति रहती है तब तक उसमें अच्छे – बुरे का विवेक भी होता है। जब वह सुमति से हटकर कुमति या दुर्बुद्धि में आ जाता है तब वह बुरे एवं अनुचित कार्य में लग जाता है। सुमति के द्वारा 2. _____ की भी प्राप्ति होती है अर्थात् उसे धन, सम्मान, स्त्री, पुत्र आदि का सुख मिलता है। इन सभी की प्राप्ति विवेक अथवा सुबुद्धि द्वारा संभव है। जो लोग मिल – जुलकर और 3. _____ से कार्य करते हैं उन पर लक्ष्मी की कृपा रहती है। उन्हें सभी की ओर से आदर मिलता है। इससे उनमें ऐसी शक्ति पैदा होती है जिससे वे देश, जाति और परिवार को गौरवमय बनाते हैं। सुमति ही सफलता की जननी है। जीवन में वही व्यक्ति सफल होता है जो कठिन से कठिन परिस्थितियों में अपनी बुद्धि पर विश्वास रखता है तथा है परिश्रम, ईमानदारी और विवेक से काम करता है। सभी का आदर करना, बड़ों के प्रति अप्रिय न बोलना, सभी से नम्र और 4. _____ बने रहना सुमति के अंतर्गत आते हैं। जहाँ सुमति नहीं रहती वहाँ दंभ, अहंकार, क्रोध और अधैर्य का साम्राज्य रहता है। सुमति – हीन लोगों से संपत्ति भी 5. _____ दूर रहती है और वे विपत्तियों में घिरे रहते हैं।

SubQuestion No : 18

Q.18 निम्न विकल्पों में से उपयुक्त प्रत्यय युक्त शब्द से रिक्त स्थान 3 की पूर्ति कीजिए।

- Ans
- 1. ईमानदारी
 - 2. चौकीदारी
 - 3. अनुरागी
 - 4. वैरागी

Question ID : 26433080953

Status : Answered

Chosen Option : 1

Comprehension:

प्रश्न 1 से 5 तक के उत्तर निम्नांकित गद्यावतरण के आधार पर दीजिए।
संसार के समस्त जीवों में मनुष्य को श्रेष्ठ माना गया है, क्योंकि वह अन्य जीवों की अपेक्षा अधिक 1. _____ और विवेकशील है। वह केवल वर्तमान की ही नहीं सोचता बल्कि भविष्य के बारे में विचार करता है। वह केवल अपनी ओर ध्यान नहीं देता वरन् दूसरों का भी खयाल रखता है। उसमें उचित और अनुचित का ज्ञान कराने वाली बुद्धि होती है। इसी आधार पर बुद्धि के दो पक्ष हैं : एक सुबुद्धि और दूसरी दुर्बुद्धि। सुबुद्धि की बड़ी महिमा है। इसी को सुमति अर्थात् अच्छी मति भी कहा जाता है। जब तक मनुष्य में सुमति रहती है तब तक उसमें अच्छे – बुरे का विवेक भी होता है। जब वह सुमति से हटकर कुमति या दुर्बुद्धि में आ जाता है तब वह बुरे एवं अनुचित कार्य में लग जाता है। सुमति के द्वारा 2. _____ की भी प्राप्ति होती है अर्थात् उसे धन, सम्मान, स्त्री, पुत्र आदि का सुख मिलता है। इन सभी की प्राप्ति विवेक अथवा सुबुद्धि द्वारा संभव है। जो लोग मिल – जुलकर और 3. _____ से कार्य करते हैं उन पर लक्ष्मी की कृपा रहती है। उन्हें सभी की ओर से आदर मिलता है। इससे उनमें ऐसी शक्ति पैदा होती है जिससे वे देश, जाति और परिवार को गौरवमय बनाते हैं। सुमति ही सफलता की जननी है। जीवन में वही व्यक्ति सफल होता है जो कठिन से कठिन परिस्थितियों में अपनी बुद्धि पर विश्वास रखता है तथा है परिश्रम, ईमानदारी और विवेक से काम करता है। सभी का आदर करना, बड़ों के प्रति अप्रिय न बोलना, सभी से नम्र और 4. _____ बने रहना सुमति के अंतर्गत आते हैं। जहाँ सुमति नहीं रहती वहाँ दंभ, अहंकार, क्रोध और अधैर्य का साम्राज्य रहता है। सुमति – हीन लोगों से संपत्ति भी 5. _____ दूर रहती है और वे विपत्तियों में घिरे रहते हैं।

SubQuestion No : 19

Q.19 निम्नलिखित विकल्पों में से सही शब्द चुनकर रिक्त स्थान 4 की पूर्ति कीजिए।

- Ans
- 1. अहंकार
 - 2. निष्ठुर
 - 3. उदार
 - 4. अनुदार

Question ID : 26433080954

Status : Answered

Chosen Option : 3

Comprehension:

प्रश्न 1 से 5 तक के उत्तर निम्नांकित गद्यावतरण के आधार पर दीजिए। संसार के समस्त जीवों में मनुष्य को श्रेष्ठ माना गया है, क्योंकि वह अन्य जीवों की अपेक्षा अधिक 1. _____ और विवेकशील है। वह केवल वर्तमान की ही नहीं सोचता बल्कि भविष्य के बारे में विचार करता है। वह केवल अपनी ओर ध्यान नहीं देता वरन् दूसरों का भी खयाल रखता है। उसमें उचित और अनुचित का ज्ञान कराने वाली बुद्धि होती है। इसी आधार पर बुद्धि के दो पक्ष हैं : एक सुबुद्धि और दूसरी दुर्बुद्धि। सुबुद्धि की बड़ी महिमा है। इसी को सुमति अर्थात् अच्छी मति भी कहा जाता है। जब तक मनुष्य में सुमति रहती है तब तक उसमें अच्छे – बुरे का विवेक भी होता है। जब वह सुमति से हटकर कुमति या दुर्बुद्धि में आ जाता है तब वह बुरे एवं अनुचित कार्य में लग जाता है। सुमति के द्वारा 2. _____ की भी प्राप्ति होती है अर्थात् उसे धन, सम्मान, स्त्री, पुत्र आदि का सुख मिलता है। इन सभी की प्राप्ति विवेक अथवा सुबुद्धि द्वारा संभव है। जो लोग मिल – जुलकर और 3. _____ से कार्य करते हैं उन पर लक्ष्मी की कृपा रहती है। उन्हें सभी की ओर से आदर मिलता है। इससे उनमें ऐसी शक्ति पैदा होती है जिससे वे देश, जाति और परिवार को गौरवमय बनाते हैं। सुमति ही सफलता की जननी है। जीवन में वही व्यक्ति सफल होता है जो कठिन से कठिन परिस्थितियों में अपनी बुद्धि पर विश्वास रखता है तथा है परिश्रम, ईमानदारी और विवेक से काम करता है। सभी का आदर करना, बड़ों के प्रति अप्रिय न बोलना, सभी से नम्र और 4. _____ बने रहना सुमति के अंतर्गत आते हैं। जहाँ सुमति नहीं रहती वहाँ दंभ, अहंकार, क्रोध और अधैर्य का साम्राज्य रहता है। सुमति – हीन लोगों से संपत्ति भी 5. _____ दूर रहती है और वे विपत्तियों में घिरे रहते हैं।

SubQuestion No : 20

Q.20 उपयुक्त संधि शब्द से रिक्त स्थान 5 की पूर्ति कीजिए।

- Ans
- ✓ 1. सदा + एव = सदैव
 - ✗ 2. सम + योग = संयोग
 - ✗ 3. सम् + चय = संचय
 - ✗ 4. सम + तोष = संतोष

Question ID : 26433080955

Status : Answered

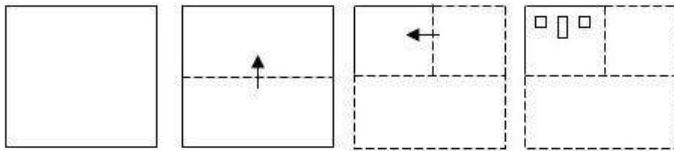
Chosen Option : 1

Constable GD in CAPFs SSF Rifleman GD in Assam Rifles and Sepoy in NCB Examination 2022

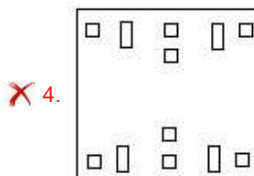
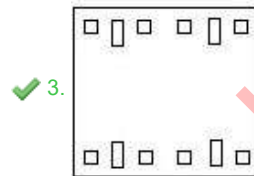
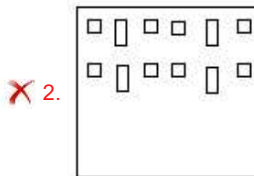
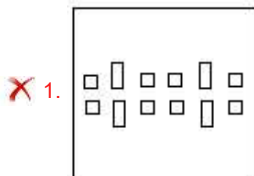
Roll Number	KD Job Updates
Candidate Name	KD Job Updates
Venue Name	iON Digital Zone iDZ Bhagalpur
Exam Date	23/01/2023
Exam Time	11:45 AM - 12:45 PM
Subject	Constable GD Examination 2022

Section : Part-A-General Intelligence and Reasoning

Q.1 एक कागज को नीचे दिखाए अनुसार मोड़ा और काटा गया है। कागज की तह खुलने पर यह कैसा दिखाई देगा?



Ans



Question ID : 26433090956

Status : Answered

Chosen Option : 3

Q.2 निम्नलिखित में से कौन सा विकल्प नीचे दिए गए शब्दों के उस क्रम को निरूपित करता है जिस क्रम में वे अंग्रेजी शब्दकोश में आते हैं?

1. Leave
2. Learn
3. Leap
4. Lease
5. Least

Ans ✓ 1. 3, 2, 4, 5, 1

✗ 2. 3, 2, 4, 1, 5

✗ 3. 3, 4, 2, 1, 5

✗ 4. 2, 3, 4, 1, 5

Question ID : 26433086970

Status : Answered

Chosen Option : 1

Q.3 निम्नलिखित में से कौन सी संख्या दी गई श्रृंखला में प्रश्न चिह्न (?) के स्थान पर आएगी?
5, 9, 25, 97, 481, ?

Ans ✗ 1. 2788

✗ 2. 2885

✗ 3. 2684

✓ 4. 2881

Question ID : 26433085643

Status : Answered

Chosen Option : 4

Q.4 नीचे दिए गए समीकरण को गणितीय रूप से सही बनाने के लिए किन दो चिह्नों को परस्पर बदलना चाहिए?

$$124 - 8 + 96 \div 16 \times 20 = 12$$

Ans ✓ 1. - और +

✗ 2. × और ÷

✗ 3. - और ×

✗ 4. + और ÷

Question ID : 264330117496

Status : Answered

Chosen Option : 1

Q.5 एक निश्चित कूट भाषा में 'Love And Light' को 513 लिखा जाता है। 'Love Sugar' को 437 लिखा जाता है और 'Sugar And Spice' को 614 लिखा जाता है। 'Love' शब्द का आंकिक कूट क्या है?

Ans ✗ 1. 1

✗ 2. 7

✓ 3. 3

✗ 4. 4

Question ID : 26433090109

Status : Answered

Chosen Option : 3

Q.6 A @ B का अर्थ है 'A, B की बहन है'।
A & B का अर्थ है 'A, B का भाई है'।
A # B का अर्थ है 'A, B की पत्नी है'।
A ^ B का अर्थ है 'A, B की माता है'।
A + B का अर्थ है 'A, B के पिता है'।
यदि U + Q ^ R @ N & C ^ I @ J # A है, तो निम्नलिखित में से कौन-सा कथन सही नहीं है?

- Ans
- 1. C, Q की पुत्री है।
 - 2. A, C का पुत्र है।
 - 3. Q, N की माता है।
 - 4. U, R के नाना है।

Question ID : 26433068948
Status : Not Answered
Chosen Option : --

Q.7 उस विकल्प का चयन कीजिए जो पांचवें अक्षर-समूह से उसी प्रकार संबंधित है जिस प्रकार दूसरा अक्षर-समूह पहले अक्षर-समूह से संबंधित है और चौथा अक्षर-समूह तीसरे अक्षर-समूह से संबंधित है।
FACTORY : AFTCYRO :: FASHION : AFHSNOI :: EXPLAIN : ?

- Ans
- 1. EXALPNI
 - 2. NIALPXE
 - 3. XELPNIA
 - 4. PLAINEX

Question ID : 26433069634
Status : Answered
Chosen Option : 3

Q.8 एक निश्चित कूट भाषा में, 'CHILL' को 'HDNHQ' और 'HARSH' को 'MWWOM' लिखा जाता है। उसी कूट भाषा में 'DEVIL' को किस प्रकार लिखा जाएगा?

- Ans
- 1. JBECQ
 - 2. IAAEQ
 - 3. JAERQ
 - 4. IBADQ

Question ID : 26433068142
Status : Not Answered
Chosen Option : --

Q.9 छः विद्यार्थी एक वृत्ताकार मेज के परितः मेज के केंद्र की ओर मुख करके बैठे हैं। A, C के बाईं ओर ठीक बगल में बैठा है। E, D के दाईं ओर तीसरे स्थान पर बैठा है। D, C के ठीक बगल में बैठा है। B, E और F दोनों के ठीक बगल में बैठा है। F के दाईं ओर ठीक बगल में कौन बैठा है?

- Ans
- 1. C
 - 2. B
 - 3. E
 - 4. D

Question ID : 26433079506
Status : Answered
Chosen Option : 2

Q.10 तीन कथनों के बाद तीन निष्कर्ष I, II और III दिए गए हैं। कथनों को सत्य मानते हुए, भले ही वे सामान्य रूप से ज्ञात तथ्यों से भिन्न प्रतीत होते हों, निर्धारित करें कि कौन-सा/से निष्कर्ष कथनों का तार्किक रूप से अनुसरण करता है/करते हैं।

कथन:

कुछ पंखे बड़े हैं।
सभी बड़े कोट हैं।
कुछ कोट फ्लैट हैं।

निष्कर्ष:

I. सभी पंखे बड़े हैं।
II. कुछ कोट बड़े हैं।
III. कुछ फ्लैट कोट हैं।

- Ans 1. निष्कर्ष I और III दोनों अनुसरण करते हैं।
 2. निष्कर्ष II और III दोनों अनुसरण करते हैं।
 3. निष्कर्ष I और II दोनों अनुसरण करते हैं।
 4. सभी निष्कर्ष अनुसरण करते हैं।

Question ID : 26433074636

Status : Answered

Chosen Option : 2

Q.11 निम्नलिखित में से कौन-सी संख्या दी गई श्रंखला में प्रश्न-चिह्न (?) के स्थान पर आएगी?
3, 11, 27, 59 ?

- Ans 1. 118
 2. 127
 3. 123
 4. 111

Question ID : 26433067880

Status : Answered

Chosen Option : 3

Q.12 उस समुच्चय का चयन करें, जिसकी संख्याओं के बीच ठीक वही संबंध है, जो संबंध निम्नांकित समुच्चयों की संख्याओं में हैं।

(नोट: संख्याओं को उसके घटक अंकों में विभाजित किए बिना, पूर्ण संख्याओं पर ही गणितीय संक्रियाएँ की जानी चाहिए। जैसे 13 - मान लीजिए 13 पर गणितीय संक्रियाएँ जैसे कि 13 में जोड़ना/घटाना/गुणा करना आदि किया जा सकता है। 13 को 1 और 3 में तोड़कर और फिर 1 और 3 पर गणितीय संक्रियाएँ करने की अनुमति नहीं है।)

(6, 9, 324)
(5, 8, 240)

- Ans 1. (10, 6, 360)
 2. (9, 5, 260)
 3. (9, 4, 232)
 4. (8, 5, 280)

Question ID : 26433076538

Status : Not Answered

Chosen Option : --

Q.13 निम्नलिखित में से कौन-सा पद दी गई श्रृंखला में प्रश्न-चिह्न (?) के स्थान पर आएगा?
KDN, JEO, GHQ, ?, UTX, LCC

- Ans 1. BNN
 2. BNT
 3. BMS
 4. BMT

Question ID : 26433069455
Status : Not Answered
Chosen Option : --

Q.14 निम्नलिखित में से कौन-सा पद दी गई श्रृंखला में प्रश्न-चिह्न (?) के स्थान पर आएगा?
NOTK, LQQN, ? , HUKT, FWHW

- Ans 1. KSMQ
 2. JSMP
 3. KSNP
 4. JSNQ

Question ID : 26433068305
Status : Not Answered
Chosen Option : --

Q.15 दर्पण को नीचे दिए गए चित्र के अनुसार MN पर रखे जाने पर दी गई आकृति

का दर्पण में निर्मित सही प्रतिबिंब चयनित कीजिए।

BCh354kx

M _____ N

- Ans 1. B C 4 3 2 4 K X
 2. B C P 3 2 4 K X
 3. B C 4 3 2 4 K X
 4. B C P 3 2 4 K X

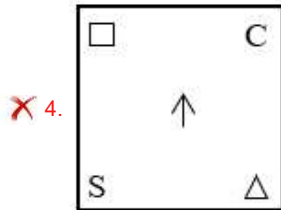
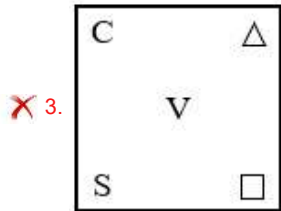
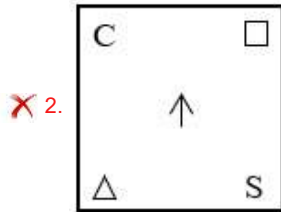
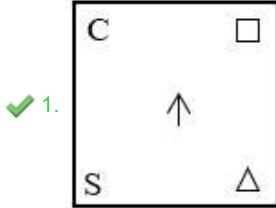
Question ID : 26433080813
Status : Answered
Chosen Option : 2

Q.16

निम्नलिखित आकृति शृंखला में प्रश्न-चिह्न (?) के स्थान पर नीचे दिए गए विकल्पों में से कौन-सी आकृति आएगी?

R	S	S	B	B	↑	↑	C	
	□		↑		S		□	?
↑		M	M	□	□	V	V	S

Ans



Question ID : 26433081695

Status : Answered

Chosen Option : 1

Q.17 उस विकल्प का चयन करें जो तीसरे पद से उसी प्रकार संबंधित है जैसे दूसरा पद पहले पद से संबंधित है।

ROSE : 36303810 :: LILY : ?

Ans ✓ 1. 24182450

✗ 2. 34303816

✗ 3. 24192456

✗ 4. 34363816

Question ID : 26433057690

Status : Answered

Chosen Option : 1

Q.18 विकल्पों में दिए गए गणितीय चिह्नों का कौन सा संयोजन निम्न समीकरण में * चिह्नों के स्थान पर क्रमिक रूप से आकर समीकरण को संतुलित करेगा?
 $7 * 10 * 280 * 2 * 10 * 80$

Ans 1. $\times, =, \div, +, -$

2. $=, \div, \times, +, -$

3. $\times, +, =, \div, -$

4. $- , + , \times , \div , =$

Question ID : 26433094995

Status : Not Answered

Chosen Option : --

Q.19 छः मित्र, एक वृत्ताकार स्थिति में केंद्र की ओर मुख करके बैठे हैं। ये P, Q, R, S, T और U हैं। P, T और S के ठीक बगल में बैठा है। S, Q के बाईं ओर ठीक बगल में बैठा है। U, Q के दाईं ओर ठीक बगल में बैठा है। R, U और T के ठीक बगल में बैठा है। T के दाईं ओर ठीक बगल में कौन बैठा है?

Ans 1. P

2. R

3. Q

4. S

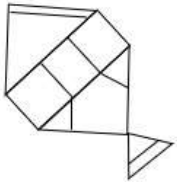
Question ID : 26433074604

Status : Answered

Chosen Option : 1

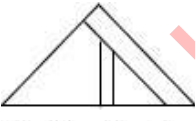
Q.20 वह विकल्प चित्र चुनिए, जो प्रस्तुत चित्र में अंतर्निहित है। (धुमाना अनुमन्य नहीं)

बै)

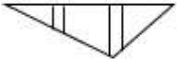


Ans

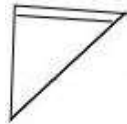
1.



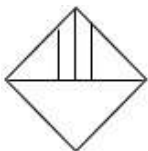
2.



3.



4.



Question ID : 26433069338

Status : Answered

Chosen Option : 3

Q.1 जनगणना 2011 के अनुसार किस भारतीय राज्य का जनसंख्या घनत्व सबसे कम है?

- Ans
- 1. सिक्किम
 - 2. नागालैंड
 - 3. अरुणाचल प्रदेश
 - 4. मिज़ोरम

Question ID : 264330116045
Status : Answered
Chosen Option : 2

Q.2 26 नवंबर, 1949 को डॉ. राजेंद्र प्रसाद ने सभा के अध्यक्ष के रूप में दस्तावेज़ पर हस्ताक्षर किए। यहां किस दस्तावेज़ के बारे में बात की जा रही है?

- Ans
- 1. प्रस्तावना
 - 2. संविधान का पहला मसौदा
 - 3. भारतीय संविधान
 - 4. परिग्रहण का साधन

Question ID : 264330115692
Status : Answered
Chosen Option : 3

Q.3 वेम्पति चित्रा सत्यम ने किस नृत्य शैली में अपनी पहचान बनाई?

- Ans
- 1. मोहिनीअट्टम
 - 2. रचनात्मक नृत्य
 - 3. कुचिपुड़ी
 - 4. सत्रीया

Question ID : 264330115836
Status : Answered
Chosen Option : 4

Q.4 घरेलू मुद्रा के संदर्भ में विदेशी मुद्रा की एक इकाई की कीमत _____ कहलाती है।

- Ans
- 1. वास्तविक विनिमय दर
 - 2. मौद्रिक विनिमय दर
 - 3. आंकी गई फ्लोट दर
 - 4. स्थिर विनिमय दर

Question ID : 264330115435
Status : Answered
Chosen Option : 2

Q.5 किसने जून 2022 में महाराष्ट्र के नए मुख्यमंत्री के रूप में शपथ ली?

- Ans
- 1. देवेन्द्र फडनवीस
 - 2. उद्धव ठाकरे
 - 3. पृथ्वीराज चव्हाण
 - 4. एकनाथ संभाजी शिंदे

Question ID : 264330114986
Status : Answered
Chosen Option : 2

Q.6 भारतीय भारोत्तोलक सैखोम मीराबाई चानू ने 2021 में उस समय इतिहास रच दिया जब वे _____ में रजत पदक जीतने वाली पहली भारतीय भारोत्तोलक बनीं।

- Ans
- 1. स्पेन में विश्व चैम्पियनशिप
 - 2. नीदरलैंड चैम्पियनशिप
 - 3. टोक्यो ओलंपिक
 - 4. एशियाई चैम्पियनशिप

Question ID : 26433089927
Status : Answered
Chosen Option : 3

Q.7 सरकार की प्राप्तियां, जो देयता सृजित करती हैं या वित्तीय परिसंपत्तियों को कम करती हैं, _____ कहलाती हैं।

- Ans
- 1. सेवा करार
 - 2. आरक्षित
 - 3. पूंजीगत प्राप्तियां
 - 4. राजस्व प्राप्तियां

Question ID : 264330115283
Status : Answered
Chosen Option : 3

Q.8 निम्नलिखित में से कौन सा वसंत उत्सव गोवा में मनाया जाता है?

- Ans
- 1. राउफ
 - 2. शिम्मो
 - 3. मीम कुट
 - 4. लोसर

Question ID : 264330106219
Status : Answered
Chosen Option : 2

Q.9 मई और जून के महीनों में देश के उत्तरी भागों में चलने वाली तेज़, गर्म और शुष्क स्थानीय हवा को क्या कहा जाता है?

- Ans
- 1. चेरी ब्लॉसम
 - 2. आम्र वर्षा
 - 3. कालबैसाखी
 - 4. लू

Question ID : 264330115985
Status : Answered
Chosen Option : 4

Q.10 विकास की प्रक्रिया के दौरान कोई देश अवसंरचनात्मक परिवर्तन से गुजरता है। निम्नलिखित में से कौन सा इस अवसंरचनात्मक परिवर्तन का एक संकेत है?

- Ans
- 1. जीडीपी (GDP) में कृषि का योगदान बढ़ता है।
 - 2. जीडीपी (GDP) में औद्योगिक क्षेत्र का योगदान घटता है।
 - 3. जीडीपी (GDP) में कृषि का योगदान 50 प्रतिशत से अधिक हो जाता है।
 - 4. जीडीपी (GDP) में कृषि का योगदान घटता है।

Question ID : 26433090756
Status : Not Answered
Chosen Option : --

Q.11 कबड्डी खेल के मैदान के किनारों पर चिह्नित लाँबी की चौड़ाई कितनी होती है?

- Ans
- 1. 2.5 m
 - 2. 1.5 m
 - 3. 2 m
 - 4. 1 m

Question ID : 26433096227
Status : Answered
Chosen Option : 1

Q.12 किस देश का संविधान सबसे लंबा लिखा हुआ है?

- Ans
- 1. कनाडा
 - 2. इंडोनेशिया
 - 3. संयुक्त राज्य अमेरिका
 - 4. भारत

Question ID : 264330115618
Status : Answered
Chosen Option : 4

Q.13 किसी विलगित परमाणु के नाभिक के केंद्र और बाह्यतम कोश के बीच की दूरी को क्या कहा जाता है?

- Ans
- 1. समस्थानिक
 - 2. परमाणु का आकार
 - 3. इलेक्ट्रॉन
 - 4. परमाणु द्रव्यमान

Question ID : 26433087854
Status : Answered
Chosen Option : 4

Q.14 निम्नलिखित में से किसे 'नाट्यशास्त्र' का रचयिता माना जाता है?

- Ans
- 1. शंकर
 - 2. विष्णु
 - 3. राघव
 - 4. भरत

Question ID : 26433071448
Status : Answered
Chosen Option : 2

Q.15 शहरी जल संतुलन योजना में चिन्हित परियोजनाओं के आधार पर, _____ (CWAP) तैयार किया जाएगा।

- Ans
- 1. सिटी वाटर एक्शन पीरियड
 - 2. कंज़र्व वाटर एक्शन प्लान
 - 3. सिटी वाटर एरिया प्लान
 - 4. सिटी वाटर एक्शन प्लान

Question ID : 264330116182
Status : Not Answered
Chosen Option : --

Q.16 निम्नलिखित में से कौन नवंबर 2022 में भारत में गोपालगंज, बिहार से विधान सभा के सदस्य बने?

- Ans
- 1. नीतीश कुमार
 - 2. नरेन्द्र मोदी
 - 3. लालमुनि चौबे
 - 4. कुसुम देवी

Question ID : 264330114973
Status : Answered
Chosen Option : 3

Q.17 _____, उत्तर में खरीफ की फसल और दक्षिण भारत में रबी की फसल है।

- Ans
- 1. अलसी
 - 2. तिल
 - 3. सरसों
 - 4. अरंडी

Question ID : 264330115530
Status : Answered
Chosen Option : 2

Q.18 भारतीय संविधान का कौन सा अनुच्छेद राज्य की सरकार के कार्य का संचालन?

- Ans
- 1. 144
 - 2. 178
 - 3. 166
 - 4. 132

Question ID : 26433089966
Status : Answered
Chosen Option : 1

Q.19 निम्नलिखित को सुमेलित करें।

- a) धान्य और अनाज i) मसूर की दाल
- b) दूध और मांस ii) चावल
- c) वसा और शर्करा iii) मछली
- d) दालें और फलियां iv) घी

- Ans
- 1. a-i, b-ii, c-iii, d-iv
 - 2. a-iii, b-i, c-ii, d-iv
 - 3. a-ii, b-iii, c-iv, d-i
 - 4. a-iii, b-iv, c-ii, d-i

Question ID : 264330115219
Status : Answered
Chosen Option : 3

Q.20 चरक को _____ के जनक के रूप में जाना जाता है।

- Ans
- 1. भारतीय राग
 - 2. योग
 - 3. आयुर्वेद
 - 4. भारत के शास्त्रीय नृत्य

Question ID : 26433089864
Status : Answered
Chosen Option : 4

Q.1 यदि ऊँचाई h और त्रिज्या r के एक ठोस लंब वृत्तीय बेलन का वक्र पृष्ठीय क्षेत्रफल उसके कुल पृष्ठीय क्षेत्रफल का एक तिहाई है, तो:

- Ans
- 1. $h = 2r$
 - 2. $h = \left(\frac{1}{3}\right)r$
 - 3. $h = r$
 - 4. $h = \left(\frac{1}{2}\right)r$

Question ID : 26433075280
Status : Answered
Chosen Option : 1

Q.2 625 m की एक वृत्तीय दौड़ में, A और B एक ही बिंदु से एक ही समय पर और क्रमशः 90 km/h और 72 km/h की चाल से दौड़ना शुरू करते हैं। यदि वे एक ही दिशा में दौड़ रहे हैं तो वे ट्रैक पर पहली बार फिर से कितने समय बाद मिलेंगे?

- Ans
- 1. 122 सेकंड में
 - 2. 115 सेकंड में
 - 3. 120 सेकंड में
 - 4. 125 सेकंड में

Question ID : 26433076383
Status : Answered
Chosen Option : 3

Q.3 यदि एक कॉम्पैक्ट डिस्क (CD) की 30 प्रतियों की कीमत Rs.140 है, तो उसी कॉम्पैक्ट डिस्क की 24 प्रतियों की कीमत कितनी होगी?

- Ans
- 1. Rs.101
 - 2. Rs.121
 - 3. Rs.112
 - 4. Rs.110

Question ID : 26433080330
Status : Answered
Chosen Option : 3

Q.4 चक्रवृद्धि ब्याज की वह वार्षिक दर क्या है जिस पर कोई मूलधन दो वर्षों में Rs.500 और तीन वर्षों में Rs.700 हो जाता है, जब ब्याज की गणना वार्षिक चक्रवृद्धि आधार पर की जाती है?

- Ans
- 1. 35%
 - 2. 40%
 - 3. 38%
 - 4. 32%

Question ID : 26433080337
Status : Answered
Chosen Option : 3

Q.5 मोहन Rs.1,200 में एक कुर्सी खरीदता है। यदि वह इसे Rs.1,440 में बेचता है, तो लाभ प्रतिशत क्या होगा?

- Ans
- 1. 20%
 - 2. 15%
 - 3. 12%
 - 4. 18%

Question ID : 26433075651
Status : Answered
Chosen Option : 1

Q.6 एक व्यक्ति बुलेट ट्रेन द्वारा 84 km/h की चाल से एक निश्चित दूरी तय करता है और बस द्वारा 66 km/h की चाल से प्रारंभिक बिंदु पर वापस लौटता है। समग्र यात्रा के लिए व्यक्ति की औसत चाल ज्ञात कीजिए।

- Ans
- 1. 74.92 km/h
 - 2. 73.92 km/h
 - 3. 72.92 km/h
 - 4. 75.92 km/h

Question ID : 26433080194
Status : Answered
Chosen Option : 4

Q.7 राबिया एक कार्य 12 दिन में समाप्त कर सकती है। सरिता उसी कार्य को 18 दिन में समाप्त कर सकती है। यदि वे मिलकर एक साथ कार्य करती हैं, तो कार्य कितने दिनों में समाप्त हो जाएगा?

- Ans
- 1. $\frac{10}{72}$
 - 2. $7\frac{2}{10}$
 - 3. $7\frac{4}{10}$
 - 4. $6\frac{2}{10}$

Question ID : 26433080382
Status : Answered
Chosen Option : 2

Q.8 कुणाल ने कोई वस्तु खरीदी और उसे 15% की हानि पर बेचा। यदि वह इसे 18% कम मूल्य पर खरीदता और ₹108 अधिक पर बेचता, तो उसे 30% का लाभ होता। उस वस्तु का क्रय मूल्य ज्ञात कीजिए।

- Ans
- 1. ₹560
 - 2. ₹500
 - 3. ₹570
 - 4. ₹540

Question ID : 26433080165
Status : Answered
Chosen Option : 1

Q.9 एक व्यक्ति की आय और बचत का अनुपात 7:3 है। यदि आय में 12% की वृद्धि हो और व्यय में 8% की वृद्धि हो, तो उसकी बचत कितना प्रतिशत बढ़ जाएगी? (दशमलव के 2 स्थान तक शुद्ध)

- Ans
- 1. 21.33 प्रतिशत
 - 2. 22.33 प्रतिशत
 - 3. 24.33 प्रतिशत
 - 4. 23.33 प्रतिशत

Question ID : 26433080163
Status : Answered
Chosen Option : 3

Q.10 एक व्यक्ति 75 kmph की गति से 4 घंटे कार चलाता है और 90 kmph की गति से अगले 6 घंटे कार चलाता है। पूरी यात्रा के दौरान कार की औसत गति ज्ञात करें।

- Ans
- 1. 85 kmph
 - 2. 80 kmph
 - 3. 84 kmph
 - 4. 82.50 kmph

Question ID : 264330116690
Status : Answered
Chosen Option : 3

Q.11 एक थैले में 50 kg दाल है। तीन दालें हैं A, B, और C, जो इसमें 4 : 3 : 3 के अनुपात में मिश्रित हैं। दालों A, B और C की कीमतें क्रमशः ₹80 प्रति kg, ₹60 प्रति kg और ₹80 प्रति kg हैं। दालों के 1 kg मिश्रण का औसत मूल्य क्या होगा?

- Ans
- 1. ₹72
 - 2. ₹74
 - 3. ₹80
 - 4. ₹70

Question ID : 26433082499
Status : Answered
Chosen Option : 1

Q.12 यदि एक दुकानदार किसी वस्तु के क्रय मूल्य पर 20% की छूट देना चाहता है, तो उसको इसे Rs.400 में बेचना होगा। यदि वह इसे Rs.520 में बेचता है, तो उसका लाभ प्रतिशत ज्ञात कीजिए।

- Ans
- 1. 8%
 - 2. 4%
 - 3. 6%
 - 4. 5%

Question ID : 26433066305
Status : Answered
Chosen Option : 2

Q.13 मनीष एक कार्य को 7 दिन में कर सकता है जबकि अनिल समान कार्य को 6 दिन में कर सकता है, पूरे काम के लिए मजदूरी 390 रुपए है, यदि वे दोनों मिलकर कार्य को पूरा करते हैं, तो मनीष की आय ज्ञात करें।

- Ans
- 1. 500 रुपए
 - 2. 200 रुपए
 - 3. 180 रुपए
 - 4. 400 रुपए

Question ID : 264330116866
Status : Answered
Chosen Option : 3

Q.14 वह छोटी से छोटी संख्या जो 12, 15, 18 और 27 से पूर्णतः विभाज्य हो, क्या है?

- Ans
- 1. 540
 - 2. 740
 - 3. 680
 - 4. 508

Question ID : 26433091500
Status : Answered
Chosen Option : 4

Q.15 उस लंबवृत्तीय बेलन का आयतन ज्ञात कीजिए, जिसका वक्रपृष्ठीय क्षेत्रफल 1012 cm^2 और उसके आधार की परिधि 22 cm है। ($\pi = 22/7$ का उपयोग करें)

- Ans
- 1. 1487 cm^3
 - 2. 1771 cm^3
 - 3. 1672 cm^3
 - 4. 1325 cm^3

Question ID : 26433066326
Status : Answered
Chosen Option : 3

Q.16 जयशंकर ने अपने नियोक्ता से 8% वार्षिक चक्रवृद्धि ब्याज की दर से एक राशि उधार ली, जो वार्षिक संयोजित होता है। उसे ऋण समाप्त करने के लिए दो वर्ष की अवधि के बाद ₹58,320 का भुगतान करना होगा। उसने कितना रुपया उधार लिया?

- Ans
- 1. ₹49,900
 - 2. ₹50,000
 - 3. ₹50,100
 - 4. ₹51,000

Question ID : 26433091623
Status : Answered
Chosen Option : 2

Q.17 निम्नलिखित में से कौन सा युग्म असहभाज्य संख्याओं को निरूपित करता है?

- Ans 1. (15, 235)
 2. (51, 141)
 3. (15, 141)
 4. (15, 94)

Question ID : 26433080283
Status : Not Answered
Chosen Option : --

Q.18 615 सिक्कों में एक रुपया, 50 पैसे और 25 पैसे के सिक्के शामिल हैं। उनके मूल्य क्रमशः 3 : 5 : 7 के अनुपात में हैं। 50 पैसे के सिक्कों की संख्या ज्ञात कीजिए।

- Ans 1. 160
 2. 150
 3. 170
 4. 180

Question ID : 26433080179
Status : Answered
Chosen Option : 2

Q.19 एक व्यक्ति के प्रति दिन काम करने के घंटे में 25% की वृद्धि हुई और उसकी प्रति घंटे की मजदूरी में 20% की वृद्धि हुई। उसकी दैनिक आय में कितने प्रतिशत की वृद्धि हुई?

- Ans 1. 45%
 2. 35%
 3. 40%
 4. 50%

Question ID : 26433080357
Status : Answered
Chosen Option : 1

Q.20 एक पंखे का अंकित मूल्य 1850 रुपए है और दुकानदार इस पर 9.5 प्रतिशत की छूट देता है। पंखे का विक्रय मूल्य है:

- Ans 1. 1448.80 रुपए
 2. 1580.60 रुपए
 3. 1674.25 रुपए
 4. 1752.50 रुपए

Question ID : 264330116751
Status : Answered
Chosen Option : 3

Q.1 Select the most appropriate synonym of the given word.

Sailor

- Ans 1. Enterpriser
 2. Prosecutor
 3. Mariner
 4. Trainer

Question ID : 26433089340
Status : Not Answered
Chosen Option : --

Q.2 Select the most appropriate option to substitute the underlined segment in the given sentence.

Guess that vessel holds the least water?

- Ans 1. vessel which holds
 2. that vessel hold
 3. which vessel holds
 4. which vessel hold

Question ID : 26433093020
Status : Not Answered
Chosen Option : --

Q.3 The following sentence has been split into four segments. Identify the segment that contains a grammatical error.

I hope / you will / helped me / this weekend.

- Ans 1. this weekend
 2. you will
 3. I hope
 4. helped me

Question ID : 26433092273
Status : Not Answered
Chosen Option : --

Q.4 Select the INCORRECTLY spelt word.

- Ans 1. Hierarchial
 2. Pathetic
 3. Troublesome
 4. Cognisant

Question ID : 26433073658
Status : Not Answered
Chosen Option : --

Q.5 Select the most appropriate ANTONYM of the word given in the bracket to fill in the blank.

His _____ (repulsive) behaviour could not be ignored.

- Ans 1. innocuous
 2. logical
 3. faithful
 4. ambitious

Question ID : 26433060326
Status : Not Answered
Chosen Option : --

Q.6 Select the most appropriate option that can substitute the underlined segment in the given sentence.

Prime Minister Narendra Modi paid tribute to Pandit Jawaharlal Nehru on his death day.

- Ans 1. death anniversary
 2. death festivity
 3. death ceremony
 4. death recurrence

Question ID : 26433088164
Status : Not Answered
Chosen Option : --

Q.7 Replace the word in bold in the given sentence with its ANTONYM.

Reforms were also made in the tedious technicalities of the feudal law.

- Ans 1. boring
 2. drab
 3. tiring
 4. exciting

Question ID : 26433072157
Status : Not Answered
Chosen Option : --

Q.8 Complete the sentence with the most appropriate synonym of the word in brackets.

Tell everyone to clear the _____ (hallway) as the bride and her father have arrived.

- Ans 1. driveway
 2. avenue
 3. stage
 4. aisle

Question ID : 26433089753
Status : Not Answered
Chosen Option : --

Q.9 Select the most appropriate meaning of the given idiom.

Out of the woods

- Ans 1. Being arrogant
 2. Always happy
 3. Not in danger
 4. Risking life

Question ID : 26433072279
Status : Not Answered
Chosen Option : --

Q.10 Select the most appropriate ANTONYM of the given word.

Shabby

- Ans 1. Dilapidated
 2. Impoverished
 3. Miserable
 4. Respectable

Question ID : 26433073572
Status : Not Answered
Chosen Option : --

Q.11 Identify the correctly spelt sentence.

- Ans 1. He is a leading manufakturer in the clothing industry.
 2. He is a leading manufacturer in the clothing endustry.
 3. He is a leading manufacturer in the clothing industry.
 4. He is a leading manufacturer in the clothing indostry.

Question ID : 26433072827
Status : Not Answered
Chosen Option : --

Q.12 Select the most appropriate option to fill in the blank.

His ashes were deposited in a golden _____.

- Ans 1. earn
 2. urn
 3. yearn
 4. years

Question ID : 26433090385
Status : Not Answered
Chosen Option : --

Q.13 Select the most appropriate alternative to replace the underlined segment in the given sentence.

They met yesterday, haven't they?

- Ans
- 1. don't they?
 - 2. isn't it?
 - 3. didn't they?
 - 4. did they?

Question ID : 26433092352
Status : Not Answered
Chosen Option : --

Q.14 Which of the following options is most similar in meaning to the given word?

Allude

- Ans
- 1. Instruct
 - 2. Tell
 - 3. Demonstrate
 - 4. Refer

Question ID : 26433088810
Status : Not Answered
Chosen Option : --

Q.15 Select the most appropriate meaning of the given idiom.

Hit the sack

- Ans
- 1. To go to bed in order to read
 - 2. To go to bed in order to sleep
 - 3. Go to bed in order to sit
 - 4. To go to bed in order to write

Question ID : 26433073647
Status : Not Answered
Chosen Option : --

Comprehension:

In the following passage some words have been deleted. Fill in the blanks with the help of the alternatives given. Select the most appropriate option for each number.

I hope you will find this series (1)_____ in developing language skills of the learners through diverse reading (2)_____ such as fairy tales, fables, classics, adventure, biography, drama and so on. The prose pieces (3)_____ for intensive language study while the poems (4)_____ enable children to develop an ear for (5)_____ and rhythm.

SubQuestion No : 16

Q.16 Select the most appropriate option to fill in blank 1.

- Ans
- 1. challenging
 - 2. demanding
 - 3. distasteful
 - 4. helpful

Question ID : **26433093027**
Status : **Not Answered**
Chosen Option : --

Comprehension:

In the following passage some words have been deleted. Fill in the blanks with the help of the alternatives given. Select the most appropriate option for each number.

I hope you will find this series (1)_____ in developing language skills of the learners through diverse reading (2)_____ such as fairy tales, fables, classics, adventure, biography, drama and so on. The prose pieces (3)_____ for intensive language study while the poems (4)_____ enable children to develop an ear for (5)_____ and rhythm.

SubQuestion No : 17

Q.17 Select the most appropriate option to fill in blank 2.

- Ans
- 1. habits
 - 2. genres
 - 3. papers
 - 4. mediums

Question ID : **26433093028**
Status : **Not Answered**
Chosen Option : --

Comprehension:

In the following passage some words have been deleted. Fill in the blanks with the help of the alternatives given. Select the most appropriate option for each number.

I hope you will find this series (1)_____ in developing language skills of the learners through diverse reading (2)_____ such as fairy tales, fables, classics, adventure, biography, drama and so on. The prose pieces (3)_____ for intensive language study while the poems (4)_____ enable children to develop an ear for (5)_____ and rhythm.

SubQuestion No : 18

Q.18 Select the most appropriate option to fill in blank 3.

- Ans
- 1. are deleted
 - 2. will be added
 - 3. are meant
 - 4. were given

Question ID : 26433093029

Status : Not Answered

Chosen Option : --

Comprehension:

In the following passage some words have been deleted. Fill in the blanks with the help of the alternatives given. Select the most appropriate option for each number.

I hope you will find this series (1)_____ in developing language skills of the learners through diverse reading (2)_____ such as fairy tales, fables, classics, adventure, biography, drama and so on. The prose pieces (3)_____ for intensive language study while the poems (4)_____ enable children to develop an ear for (5)_____ and rhythm.

SubQuestion No : 19

Q.19 Select the most appropriate option to fill in blank 4.

- Ans
- 1. will
 - 2. is
 - 3. was
 - 4. has

Question ID : 26433093030

Status : Not Answered

Chosen Option : --

Comprehension:

In the following passage some words have been deleted. Fill in the blanks with the help of the alternatives given. Select the most appropriate option for each number.

I hope you will find this series (1)_____ in developing language skills of the learners through diverse reading (2)_____ such as fairy tales, fables, classics, adventure, biography, drama and so on. The prose pieces (3)_____ for intensive language study while the poems (4)_____ enable children to develop an ear for (5)_____ and rhythm.

SubQuestion No : 20

Q.20 Select the most appropriate option to fill in blank 5.

- Ans 1. onomatopoeia
 2. rhyme
 3. personification
 4. simile

Question ID : 26433093031
Status : Not Answered
Chosen Option : --

Section : Part-D-Hindi

Q.1 ' _____ भर पानी में डूब मरना।' मुहावरे में रिक्त स्थान की पूर्ति उपयुक्त शब्द द्वारा कीजिए।

- Ans 1. तालाब
 2. सूखे
 3. चुल्लू
 4. बाल्टी

Question ID : 26433069686
Status : Answered
Chosen Option : 3

Q.2 निम्नलिखित वाक्य में से अशुद्धि पहचानें- तुम लोग कुते की मौत मरोगे।

- Ans 1. तुम
 2. कुते
 3. मौत
 4. मरोगे

Question ID : 26433066830
Status : Answered
Chosen Option : 2

Q.3 जल ही जीवन है।

उपरोक्त वाक्य में रेखांकित शब्द के पर्यायवाची शब्द का चयन विकल्पों में से कीजिए।

- Ans
- 1. दृग
 - 2. हर
 - 3. मतंग
 - 4. पानी

Question ID : 26433079617
Status : Answered
Chosen Option : 4

Q.4 निम्न शब्दों में से उचित शब्द का प्रयोग करके दिए गए वाक्य के रिक्त स्थान की पूर्ति कीजिए।
आपको क्या पता कि उसने मेरे साथ क्या _____ की?

- Ans
- 1. खूबी
 - 2. कठिनाई
 - 3. भलाई
 - 4. विशेषता

Question ID : 26433074417
Status : Answered
Chosen Option : 3

Q.5 निम्नलिखित वाक्य के किस खंड में अशुद्धि है?
आप अपनी कार को भी ले आना।

- Ans
- 1. को भी
 - 2. आप
 - 3. अपनी
 - 4. आना

Question ID : 26433066754
Status : Answered
Chosen Option : 4

Q.6 "गुरु हथौड़े से वह प्रहार कर रहा था।"
उक्त वाक्य में प्रयुक्त 'गुरु' के स्थान पर उसके विलोम शब्द का प्रयोग निम्न में से किस वाक्य में किया गया है?

- Ans
- 1. भारी हथौड़े से वह प्रहार कर रहा था।
 - 2. बड़े हथौड़े से वह प्रहार कर रहा था।
 - 3. वजनदार हथौड़े से वह प्रहार कर रहा था।
 - 4. लघु हथौड़े से वह प्रहार कर रहा था।

Question ID : 26433067022
Status : Answered
Chosen Option : 4

Q.7 निम्नलिखित विकल्पों में से कौन सा एक निजवाचक सर्वनाम का वाक्य नहीं है?

- Ans 1. आप कुछ पूछना चाहते हैं?
 2. ये फाइलें मैं अपने आप देखूँगा।
 3. वे अपने आपही यह जिम्मेदारी सँभालने को तैयार हो गए।
 4. यह सब वे अपने आप देख लेंगे।

Question ID : 26433091240
Status : Not Answered
Chosen Option : --

Q.8 'जिसका कोई नाथ न हो' वाक्यांश के लिए सार्थक शब्द है-

- Ans 1. अनाथ
 2. नास्तिक
 3. सनाथ
 4. नाथ

Question ID : 26433065861
Status : Answered
Chosen Option : 1

Q.9 'वह व्यक्ति जो काव्य अथवा कविता की रचना करता हो' वाक्यांश के लिए सार्थक शब्द है-

- Ans 1. कवि
 2. कटु
 3. कपि
 4. कल्प

Question ID : 26433062231
Status : Answered
Chosen Option : 1

Q.10 निम्न में से कौन-सा शब्द 'अर्जुन' शब्द का पर्यायवाची शब्द है?

- Ans 1. सव्यसाची
 2. विनायक
 3. अमरपति
 4. जगन्नाथ

Question ID : 26433067074
Status : Answered
Chosen Option : 3

Q.11 मुहावरों और उनके अर्थ का निम्नलिखित में से कौन सा युग्म अशुद्ध है?

- Ans 1. सर खपाना- दिमाग लगाना
 2. हाथ पैर मारना- प्रयत्न करना
 3. हाथ का मैल- तुच्छ वस्तु
 4. लकीर का फ़कीर- प्रगतिशील होना

Question ID : 26433062556
Status : Answered
Chosen Option : 4

Q.12 'भोजन बहुत सुन्दर बना है।' इस वाक्य में रेखांकित शब्द के स्थान पर उपयुक्त शब्द क्या होगा?

- Ans 1. स्वादिष्ट
 2. खूबसूरत
 3. उन्नत
 4. बेहतर

Question ID : 26433066799
Status : Answered
Chosen Option : 1

Q.13 निम्नलिखित में से कौन सा एक कारक चिन्ह नहीं है?

- Ans 1. द्वारा
 2. पर
 3. के लिए
 4. जाना

Question ID : 26433085028
Status : Answered
Chosen Option : 4

Q.14 निम्नलिखित वाक्यांश के लिए एक सार्थक शब्द क्या होगा?
गज के समान गति से चलने वाली

- Ans 1. हंसवाहिनी
 2. गजगामिनी
 3. मृणालकांति
 4. मृगनयनी

Question ID : 26433069989
Status : Answered
Chosen Option : 2

Q.15 "सुयश अमेरिका गया होगा।"
उपरोक्त वाक्य को पूर्ण भूतकाल का प्रयोग करते हुए पुनः लिखिए।

- Ans 1. सुयश अमेरिका जाएगा।
 2. सुयश अमेरिका गया था।
 3. सुयश अमेरिका गया है।
 4. सुयश अमेरिका जा रहा था।

Question ID : 26433066981
Status : Answered
Chosen Option : 2

Comprehension:

प्रश्न संख्या 1-5 के उत्तर निम्न गद्यांश के आधार पर दीजिए।

गुरु नानक ने प्रेम का संदेश दिया है उनका कथन था कि ईश्वर नाम के सम्मुख जाति और कुल के बंधन (1) _____ हैं, क्योंकि मनुष्य जीवन का जो चरम प्राप्तव्य है वह स्वयं प्रेमरूप है प्रेम ही उसका स्वभाव है, (2) _____ ही उसका साधन है अरे ओ मुग्ध मनुष्य, सच्ची प्रीति से ही तेरा मान-अभिमान नष्ट होगा, तेरी छोटाई की सीमा (3) _____ होगी, परम मंगलमय शिव तुझे प्राप्त होगा उसी सच्चे प्रेम की साधना ही तेरे जीवन का परम लक्ष्य है बाह्य (4) _____ को तू धर्म समझ रहा है मूल संस्कारों को तू आस्था मानता है नहीं प्यारे, यह सब धर्म नहीं है धर्म तो स्वयं रूप होकर भगवान के रूप में तेरे भीतर (5) _____ है उनका मत था कि विश्व का परित्याग कर सन्यास लेना ईश्वर की दृष्टि में आवश्यक नहीं है उसके लिए तो धार्मिक सन्यासी तथा भक्त व गृहस्थ सभी समान हैं।

SubQuestion No : 16

Q.16 रिक्त स्थान (1) के लिए सर्वाधिक उपयुक्त शब्द इनमें से कौन सा होगा?

- Ans 1. निरर्थक
 2. अनिवार्य
 3. सार्थक
 4. जरूरी

Question ID : 26433092232

Status : Answered

Chosen Option : 4

Comprehension:

प्रश्न संख्या 1-5 के उत्तर निम्न गद्यांश के आधार पर दीजिए।

गुरु नानक ने प्रेम का संदेश दिया है उनका कथन था कि ईश्वर नाम के सम्मुख जाति और कुल के बंधन (1) _____ हैं, क्योंकि मनुष्य जीवन का जो चरम प्राप्तव्य है वह स्वयं प्रेमरूप है प्रेम ही उसका स्वभाव है, (2) _____ ही उसका साधन है अरे ओ मुग्ध मनुष्य, सच्ची प्रीति से ही तेरा मान-अभिमान नष्ट होगा, तेरी छोटाई की सीमा (3) _____ होगी, परम मंगलमय शिव तुझे प्राप्त होगा उसी सच्चे प्रेम की साधना ही तेरे जीवन का परम लक्ष्य है बाह्य (4) _____ को तू धर्म समझ रहा है मूल संस्कारों को तू आस्था मानता है नहीं प्यारे, यह सब धर्म नहीं है धर्म तो स्वयं रूप होकर भगवान के रूप में तेरे भीतर (5) _____ है उनका मत था कि विश्व का परित्याग कर सन्यास लेना ईश्वर की दृष्टि में आवश्यक नहीं है उसके लिए तो धार्मिक सन्यासी तथा भक्त व गृहस्थ सभी समान हैं।

SubQuestion No : 17

Q.17 रिक्त स्थान (2) के लिए सर्वाधिक उपयुक्त शब्द इनमें से कौन सा होगा?

- Ans 1. गुस्सा
 2. प्रेम
 3. घृणा
 4. शत्रुता

Question ID : 26433092233

Status : Answered

Chosen Option : 2

Comprehension:

प्रश्न संख्या 1-5 के उत्तर निम्न गद्यांश के आधार पर दीजिए।

गुरु नानक ने प्रेम का संदेश दिया है उनका कथन था कि ईश्वर नाम के सम्मुख जाति और कुल के बंधन (1) _____ हैं, क्योंकि मनुष्य जीवन का जो चरम प्राप्तव्य है वह स्वयं प्रेमरूप है प्रेम ही उसका स्वभाव है, (2) _____ ही उसका साधन है अरे ओ मुग्ध मनुष्य, सच्ची प्रीति से ही तेरा मान-अभिमान नष्ट होगा, तेरी छोटाई की सीमा (3) _____ होगी, परम मंगलमय शिव तुझे प्राप्त होगा उसी सच्चे प्रेम की साधना ही तेरे जीवन का परम लक्ष्य है बाह्य (4) _____ को तू धर्म समझ रहा है मूल संस्कारों को तू आस्था मानता है नहीं प्यारे, यह सब धर्म नहीं है धर्म तो स्वयं रूप होकर भगवान के रूप में तेरे भीतर (5) _____ है उनका मत था कि विश्व का परित्याग कर सन्यास लेना ईश्वर की दृष्टि में आवश्यक नहीं है उसके लिए तो धार्मिक सन्यासी तथा भक्त व गृहस्थ सभी समान हैं।

SubQuestion No : 18

Q.18 रिक्त स्थान (3) के लिए सर्वाधिक उपयुक्त शब्द इनमें से कौन सा होगा?

- Ans
- 1. शुरू
 - 2. प्रगति
 - 3. समाप्त
 - 4. उद्भव

Question ID : 26433092234

Status : Answered

Chosen Option : 2

Comprehension:

प्रश्न संख्या 1-5 के उत्तर निम्न गद्यांश के आधार पर दीजिए।

गुरु नानक ने प्रेम का संदेश दिया है उनका कथन था कि ईश्वर नाम के सम्मुख जाति और कुल के बंधन (1) _____ हैं, क्योंकि मनुष्य जीवन का जो चरम प्राप्तव्य है वह स्वयं प्रेमरूप है प्रेम ही उसका स्वभाव है, (2) _____ ही उसका साधन है अरे ओ मुग्ध मनुष्य, सच्ची प्रीति से ही तेरा मान-अभिमान नष्ट होगा, तेरी छोटाई की सीमा (3) _____ होगी, परम मंगलमय शिव तुझे प्राप्त होगा उसी सच्चे प्रेम की साधना ही तेरे जीवन का परम लक्ष्य है बाह्य (4) _____ को तू धर्म समझ रहा है मूल संस्कारों को तू आस्था मानता है नहीं प्यारे, यह सब धर्म नहीं है धर्म तो स्वयं रूप होकर भगवान के रूप में तेरे भीतर (5) _____ है उनका मत था कि विश्व का परित्याग कर सन्यास लेना ईश्वर की दृष्टि में आवश्यक नहीं है उसके लिए तो धार्मिक सन्यासी तथा भक्त व गृहस्थ सभी समान हैं।

SubQuestion No : 19

Q.19 रिक्त स्थान (4) के लिए सर्वाधिक उपयुक्त शब्द इनमें से कौन सा होगा?

- Ans
- 1. नीतियों
 - 2. आडंबरों
 - 3. विश्वासों
 - 4. संस्कारों

Question ID : 26433092235

Status : Answered

Chosen Option : 4

Comprehension:

प्रश्न संख्या 1-5 के उत्तर निम्न गद्यांश के आधार पर दीजिए।

गुरु नानक ने प्रेम का संदेश दिया है उनका कथन था कि ईश्वर नाम के सम्मुख जाति और कुल के बंधन (1) _____ है, क्योंकि मनुष्य जीवन का जो चरम प्राप्तव्य है वह स्वयं प्रेमरूप है प्रेम ही उसका स्वभाव है, (2) _____ ही उसका साधन है अरे ओ मुग्ध मनुष्य, सच्ची प्रीति से ही तेरा मान-अभिमान नष्ट होगा, तेरी छोटाई की सीमा (3) _____ होगी, परम मंगलमय शिव तुझे प्राप्त होगा उसी सच्चे प्रेम की साधना ही तेरे जीवन का परम लक्ष्य है बाह्य (4) _____ को तू धर्म समझ रहा है मूल संस्कारों को तू आस्था मानता है नहीं प्यारे, यह सब धर्म नहीं है धर्म तो स्वयं रूप होकर भगवान के रूप में तेरे भीतर (5) _____ है उनका मत था कि विश्व का परित्याग कर सन्यास लेना ईश्वर की दृष्टि में आवश्यक नहीं है उसके लिए तो धार्मिक सन्यासी तथा भक्त व गृहस्थ सभी समान हैं।

SubQuestion No : 20

Q.20 रिक्त स्थान (5) के लिए सर्वाधिक उपयुक्त शब्द इनमें से कौन सा होगा?

Ans 1. गायब

2. विराजमान

3. बाहर

4. साधना

Question ID : 26433092236

Status : Answered

Chosen Option : 2

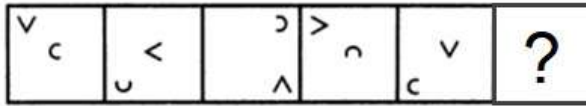
KD Job Updates

Constable GD in CAPFs SSF Rifleman GD in Assam Rifles and Sepoy in NCB Examination 2022

Roll Number	KD Job Updates
Candidate Name	KD Job Updates
Venue Name	iON Digital Zone iDZ Mohali
Exam Date	23/01/2023
Exam Time	2:30 PM - 3:30 PM
Subject	Constable GD Examination 2022

Section : Part-A-General Intelligence and Reasoning

Q.1 दिए गए विकल्पों में से उस आकृति का चयन करें जो निम्नलिखित श्रृंखला में प्रश्नवाचक चिह्न (?) का स्थान ले सकती है।



Ans

✗ 1.



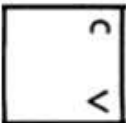
✗ 2.



✓ 3.



✗ 4.



Question ID : 26433080502

Status : Answered

Chosen Option : 4

Q.2 नीचे दिए गए समीकरण को गणितीय रूप से सही बनाने के लिए किन दो चिह्नों को परस्पर बदलना चाहिए?

$$24 \times 16 + 8 - 36 \div 18 = 30$$

Ans ✗ 1. - और +

✗ 2. ÷ और ×

✗ 3. × और -

✓ 4. + और ÷

Question ID : 264330117549

Status : Answered

Chosen Option : 4

Q.3 निम्नलिखित में से कौन-सा पद दी गई श्रृंखला में प्रश्न-चिह्न (?) के स्थान पर आएगा?
XFCJ, ADFH, ?, GZLD, JXOB

- Ans
- 1. BDFI
 - 2. XDFI
 - 3. FBDI
 - 4. DBIF

Question ID : 26433068982
Status : Answered
Chosen Option : 4

Q.4 दिए गए समीकरण को संतुलित करने के लिए इसके किन दो चिह्नों को परस्पर बदलना होगा?
 $785 - 125 + 12 \div 6 \times 39 = 574$

- Ans
- 1. \times और $+$
 - 2. \times और $+$
 - 3. $-$ और $+$
 - 4. $+$ और \div

Question ID : 26433090135
Status : Not Answered
Chosen Option : --

Q.5 एक निश्चित कूट भाषा में, 'CRAVE' को 'HVFZJ' और 'ROUND' को 'WSZRI' लिखा जाता है। उसी कूट भाषा में 'BIRDY' को किस प्रकार लिखा जाएगा?

- Ans
- 1. HTEBW
 - 2. GMWHD
 - 3. KRYSD
 - 4. HRFBW

Question ID : 26433068143
Status : Answered
Chosen Option : 2

Q.6 उस समुच्चय का चयन करें, जिसकी संख्याओं के बीच ठीक वही संबंध है, जो संबंध निम्नांकित समुच्चयों की संख्याओं में हैं।
(नोट: संख्याओं को उसके घटक अंकों में विभाजित किए बिना, पूर्ण संख्याओं पर ही गणितीय संक्रियाएँ की जानी चाहिए। जैसे 13 - मान लीजिए 13 पर गणितीय संक्रियाएँ जैसे कि 13 में जोड़ना/घटाना/गुणा करना आदि किया जा सकता है। 13 को 1 और 3 में तोड़कर और फिर 1 और 3 पर गणितीय संक्रियाएँ करने की अनुमति नहीं है।)
(4, 8, 256)
(2, 9, 144)

- Ans
- 1. (3, 7, 162)
 - 2. (8, 5, 340)
 - 3. (6, 9, 432)
 - 4. (4, 9, 258)

Question ID : 26433076539
Status : Not Answered
Chosen Option : --

Q.7 किस विकल्प में निम्नलिखित शब्दों का वह क्रम दिया गया है, जिस क्रम में वे अंग्रेजी शब्दकोश में आते हैं?

- 1 vehicle
- 2 verify
- 3 vegan
- 4 venom
- 5 vein

Ans 1. 3,5,4,1,2

2. 3,1,5,4,2

3. 4,2,1,3,5

4. 3,4,2,1,5

Question ID : 26433069324

Status : Answered

Chosen Option : 2

Q.8 'A + B' का अर्थ है कि 'A, B का पिता है'
'A - B' का अर्थ है कि 'A, B की पत्नी है'
'A × B' का अर्थ है कि 'A, B का भाई है'
'A ÷ B' का अर्थ है कि 'A, B की पुत्री है'
यदि 'P - R × Q + S' है, तो निम्नलिखित में से कौन सा कथन सत्य है?

Ans 1. P, Q की भाभी है।

2. Q, P की भाभी है।

3. P, S की भाभी है।

4. P, R की भाभी है।

Question ID : 26433082759

Status : Answered

Chosen Option : 1

Q.9 दिए गए विकल्पों में से उस अक्षर-समूह का चयन कीजिए जो निम्न श्रृंखला में प्रश्न-चिह्न (?) के स्थान पर आ सकता है।
STOP, VVSU, YXWZ, ?, EBEJ

Ans 1. BZAE

2. BAAE

3. AABE

4. AZAE

Question ID : 26433079030

Status : Answered

Chosen Option : 1

Q.10 दर्पण को नीचे दिए गए चित्र के अनुसार MN पर रखे जाने पर दी गई आकृति

का दर्पण में निर्मित सही प्रतिबिंब चयनित कीजिए।

x c U Q d h k

M ————— N

Ans

✗ 1. x c n ð q y k

✗ 2. k h b p u o x

✓ 3. x c n σ q μ k

✗ 4. x o n σ q μ k

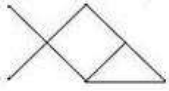
Question ID : 26433080814

Status : Answered

Chosen Option : 3

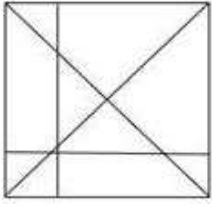
KD Job Updates

Q.11 उस विकल्प का चयन कीजिए, जिसमें प्रस्तुत चित्र अंतर्निहित है (घुमाना अनुमन्य नहीं है)

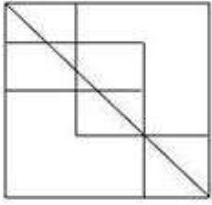


Ans


✗ 1.



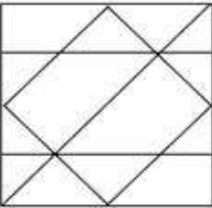
✗ 2.



✓ 3.



✗ 4.



Question ID : 26433076719

Status : Answered

Chosen Option : 3

Q.12 छह विद्यार्थी एक वृत्ताकार मेज के परितः इसके केंद्र की ओर मुख करके बैठे हैं। प्रेम, नोलन और सूरज के ठीक बगल में हैं। मधु, प्रेम के दाईं ओर तीसरे स्थान पर बैठी है। सूरज, मधु के दाईं ओर दूसरे स्थान पर बैठा है। राज, मधु और नोलन के ठीक बगल में बैठा है। स्टीव, नोलन के दाईं ओर तीसरे स्थान पर बैठा है। प्रेम, स्टीव के दाईं ओर दूसरे स्थान पर बैठा है। इनमें से कौन राज और प्रेम के ठीक बगल में बैठा है?

Ans ✗ 1. मधु

✓ 2. नोलन

✗ 3. सूरज

✗ 4. स्टीव

Question ID : 26433080396

Status : Answered

Chosen Option : 2

Q.13 कीर्ति, सुमन, शुभ, कनक, परी, चारु, श्लोक और शिवी एक वर्गाकार मेज के चारों ओर मेज के केंद्र की ओर मुख करके बैठे हैं। उनमें से कुछ कोनों पर बैठे हैं, जबकि कुछ भुजाओं के ठीक मध्य में बैठे हैं। कीर्ति, शुभ के बाईं ओर तीसरे स्थान पर बैठी है। कीर्ति किसी एक कोने पर बैठी है। कनक, परी के दाईं ओर दूसरे स्थान पर बैठी है। परी किसी भी कोने पर नहीं बैठी है। परी, कीर्ति के ठीक बगल में नहीं बैठी है। सुमन, चारु के ठीक बगल में बैठी है। सुमन किसी भी भुजा के ठीक मध्य में नहीं बैठी है। सुमन और श्लोक के बीच में केवल तीन व्यक्ति बैठे हैं। कनक के ठीक बगल में कौन बैठा/बैठी है?

- Ans
- 1. शुभ
 - 2. चारु
 - 3. कीर्ति
 - 4. सुमन

Question ID : 26433082291
Status : Not Answered
Chosen Option : --

Q.14 निम्नलिखित में से कौन-सी संख्या दी गई श्रृंखला में प्रश्न-चिह्न (?) के स्थान पर आएगी?
1, 9, 41, 169, ?

- Ans
- 1. 440
 - 2. 681
 - 3. 148
 - 4. 256

Question ID : 26433082009
Status : Answered
Chosen Option : 2

Q.15 एक निश्चित कूट भाषा में, 'HUMAN' को 'HVMBN' और 'BEING' को 'BFIOG' के रूप में लिखा जाता है। इसी कूट भाषा में 'NURSE' को किस प्रकार से लिखा जाएगा?

- Ans
- 1. NURTE
 - 2. NVRTE
 - 3. NVRET
 - 4. NRVTE

Question ID : 26433087253
Status : Answered
Chosen Option : 2

Q.16 उस विकल्प का चयन करें जो तीसरे पद से उसी प्रकार संबंधित है जैसे दूसरा पद पहले पद से संबंधित है।

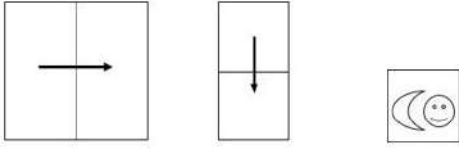
APTITUDE : BQUJUVEF :: ANALOGY : ?

- Ans
- 1. ZNZMOGY
 - 2. BOBMPHZ
 - 3. LOANAYG
 - 4. YGOLANA

Question ID : 26433057692
Status : Answered
Chosen Option : 2

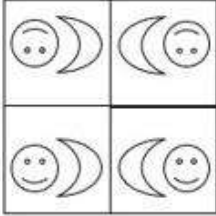
Q.17 एक कागज को नीचे दिखाये गए रूप में मोड़ा और काटा जाता है। खोलने पर यह कैसे

दिखाई देगा?




Ans


✓ 1.



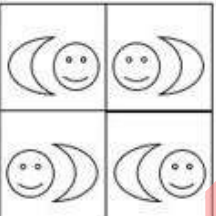
✗ 2.



✗ 3.



✗ 4.



Question ID : 26433089786

Status : Answered

Chosen Option : 3

Q.18 उस विकल्प का चयन करें जो तीसरे शब्द से उसी प्रकार संबंधित है जिस प्रकार दूसरा शब्द पहले शब्द से संबंधित है। (शब्दों को अर्थपूर्ण शब्दों के रूप में मानना है और उन्हें शब्द में अक्षरों/व्यंजनों/स्वरों की संख्या के आधार पर एक-दूसरे से संबंधित नहीं करना है।)

कप : क्रॉकरी :: शार्पनर : ?

Ans ✗ 1. रबड

✗ 2. फर्नीचर

✗ 3. धुल

✓ 4. लेखन सामग्री

Question ID : 26433082933

Status : Answered

Chosen Option : 4

Q.19 निम्नलिखित में से कौन-सी संख्या दी गई श्रृंखला में प्रश्न-चिह्न (?) के स्थान पर आएगी?
2, 12, 36, ?, 150, 252

- Ans 1. 80
 2. 50
 3. 30
 4. 60

Question ID : 26433085351
Status : Answered
Chosen Option : 4

Q.20 तीन कथनों के बाद तीन निष्कर्ष I, II और III दिए गए हैं। कथनों को सत्य मानते हुए, भले ही वे सामान्य रूप से ज्ञात तथ्यों से भिन्न प्रतीत होते हों, निर्धारित करें कि कौन-सा/से निष्कर्ष कथनों का तार्किक रूप से अनुसरण करता है/करते हैं।

कथन:

सभी तकिए बिस्तर हैं।
कुछ बिस्तर अलमारी हैं।
सभी अलमारी लकड़ी हैं।

निष्कर्ष:

- I. कुछ बिस्तर तकिए हैं।
II. कुछ अलमारी बिस्तर हैं।
III. सभी लकड़ी अलमारी हैं।

- Ans 1. सभी निष्कर्ष अनुसरण करते हैं।
 2. निष्कर्ष I और II दोनों अनुसरण करते हैं।
 3. निष्कर्ष II और III दोनों अनुसरण करते हैं।
 4. निष्कर्ष I और III दोनों अनुसरण करते हैं।

Question ID : 26433074637
Status : Answered
Chosen Option : 2

Section : Part-B-General Knowledge and General awareness

Q.1 आधुनिक आवर्त सारणी में कितने तत्व हैं?

- Ans 1. 118
 2. 106
 3. 102
 4. 124

Question ID : 264330115174
Status : Answered
Chosen Option : 1

Q.2 _____ के एक महान आदिवासी नेता, वीर लखन नायक ने भारत छोड़ो आंदोलन में भाग लिया और 1943 में अंग्रेजों द्वारा उन्हें फांसी दे दी गई।

- Ans
- 1. संयुक्त प्रांत
 - 2. बंगाल
 - 3. ओडिशा
 - 4. बिहार

Question ID : 26433089896
Status : Answered
Chosen Option : 4

Q.3 भारत के संशोधित संविधान के अनुच्छेद 279A के अनुसार, GST परिषद जो केंद्र और राज्यों का एक संयुक्त मंच होगा, में निम्नलिखित सदस्य शामिल होंगे:

- (i) केंद्रीय वित्त मंत्री
- (ii) केंद्रीय राज्य मंत्री, राजस्व या वित्त प्रभारी
- (iii) वित्त या करधान प्रभारी मंत्री या प्रत्येक राज्य सरकार द्वारा नामित कोई अन्य मंत्री

- Ans
- 1. केवल (iii)
 - 2. (i) और (ii) दोनों
 - 3. केवल (i)
 - 4. (i), (ii) और (iii)

Question ID : 264330103807
Status : Answered
Chosen Option : 4

Q.4 भारतीय प्रतिभूति और विनियम बोर्ड (SEBI) की पहली महिला प्रमुख कौन बनी हैं?

- Ans
- 1. सामंथा क्रिस्टोफोरेटी
 - 2. मंजरी जरुहर
 - 3. माधवी पुरी बुच
 - 4. गीता गोपीनाथ

Question ID : 264330115039
Status : Answered
Chosen Option : 3

Q.5 कबड्डी के खेल में एक समय में प्रत्येक पक्ष से कितने खिलाड़ियों को फील्ड में खेलने की अनुमति होती है?

- Ans
- 1. 7
 - 2. 10
 - 3. 9
 - 4. 8

Question ID : 264330115935
Status : Answered
Chosen Option : 1

Q.6 2022 तक की स्थिति के अनुसार, विश्व जनसंख्या में भारत का स्थान क्या है?

- Ans
- 1. 5
 - 2. 1
 - 3. 2
 - 4. 3

Question ID : 264330116046
Status : Answered
Chosen Option : 3

Q.7 'चू फाट (Chu Faat)' पूर्वोत्तर भारत के निम्नलिखित में से किस राज्य का लोक नृत्य है?

- Ans
- 1. नागालैंड
 - 2. सिक्किम
 - 3. असम
 - 4. अरुणाचल प्रदेश

Question ID : 26433086715
Status : Answered
Chosen Option : 1

Q.8 एक प्रसिद्ध तमिल महाकाव्य, सिलप्पादिकारम की रचना इलंगो नामक एक कवि ने लगभग _____ वर्ष पहले की थी।

- Ans
- 1. 2600
 - 2. 2200
 - 3. 3000
 - 4. 1800

Question ID : 26433089127
Status : Not Answered
Chosen Option : --

Q.9 _____ शहरों में जलस्रोतों के संरक्षण तथा इस्तेमालशुदा पानी को दोबारा इस्तेमाल करने व उसे री-साइकिल करने, सीवर और गदले पानी के प्रबंधन, जलापूर्ति के दायरे तथा पानी की गुणवत्ता व मात्रा के बारे में प्रदान की जाने वाली सेवाओं का मूल्यांकन किया जा सके के लिए है।

- Ans
- 1. "नमामि गंगे"
 - 2. "आयुष्मान भारत"
 - 3. "इंद्रधनुष योजना"
 - 4. "पेय जल सर्वेक्षण"

Question ID : 264330116183
Status : Answered
Chosen Option : 4

Q.10 भारत की पहली जूट मिल किस राज्य में स्थापित की गई थी?

- Ans 1. पश्चिम बंगाल
 2. ओडिशा
 3. बिहार
 4. असम

Question ID : 264330115583
Status : Answered
Chosen Option : 1

Q.11 _____ द्वारा 4 किलो कैलोरी ऊर्जा मिलती है।

- Ans 1. 4 ग्राम वसा
 2. एक ग्राम शर्करा
 3. 4 ग्राम प्रोटीन
 4. एक ग्राम प्रोटीन

Question ID : 264330115220
Status : Not Attempted and
Marked For Review
Chosen Option : --

Q.12 हरित क्रांति के दौरान, किसानों ने _____ का उपयोग करके फसलों की खेती की।

- Ans 1. द्विबीजपत्री बीजों
 2. निम्न उपज वाली किस्मों के बीजों
 3. अधिक उपज वाली किस्मों के बीजों
 4. एकबीजपत्री बीजों

Question ID : 264330115417
Status : Answered
Chosen Option : 3

Q.13 निम्नलिखित में से कौन-सा राज्य 83वीं राष्ट्रीय टेबल टेनिस चैम्पियनशिप, 2022 का मेजबान था?

- Ans 1. मेघालय
 2. उत्तर प्रदेश
 3. मणिपुर
 4. असम

Question ID : 26433090751
Status : Answered
Chosen Option : 1

Q.14 निम्नलिखित में से किसने कथक नृत्य शैली के विकास के लिए पुरस्कार और मान्यता प्राप्त की?

- Ans
- 1. अमाला अक्किनेनी
 - 2. केलुचरण महापात्रा
 - 3. शोभना नारायण
 - 4. उदय शंकर

Question ID : 264330115837
Status : Not Answered
Chosen Option : --

Q.15 सिंधी समुदाय द्वारा मकर संक्रांति निम्नलिखित में से किस नाम से मनाई जाती है?

- Ans
- 1. तिरमूरी
 - 2. थदड़ी
 - 3. लाल लोई
 - 4. टीजड़ी

Question ID : 26433097114
Status : Answered
Chosen Option : 3

Q.16 Which article of Indian Constitution provides for right to freedom of speech?

- Ans
- 1. 21
 - 2. 20
 - 3. 21A
 - 4. 19

Question ID : 264330115637
Status : Answered
Chosen Option : 4

Q.17 निम्नलिखित में से कौन-सा, हिंद महासागर का विस्तार है?

- Ans
- 1. अरब सागर
 - 2. कैरेबियन सागर
 - 3. पीला सागर
 - 4. अरल सागर

Question ID : 264330116007
Status : Answered
Chosen Option : 1

Q.18 स्वतंत्रता के बाद, भारतीय संसद ने सामाजिक और आर्थिक नीति के उद्देश्य के रूप में समाज के स्वरूप को स्वीकार किया है।

- Ans
- 1. उदारवादी
 - 2. पूंजीवादी
 - 3. साम्यवादी
 - 4. समाजवादी

Question ID : 264330116132
Status : Answered
Chosen Option : 4

Q.19 भारत के किस केंद्रीय मंत्री ने नवंबर 2022 में सी-डॉट परिसर, दिल्ली में उद्यमिता सेल व नवाचार केंद्र का उद्घाटन किया?

- Ans
- 1. गिरिराज सिंह
 - 2. भूपेन्द्र यादव
 - 3. अश्विनी वैष्णव
 - 4. सुब्रह्मण्यम जयशंकर

Question ID : 264330114955
Status : Answered
Chosen Option : 3

Q.20 एक वर्ष में उत्पादित _____ वस्तुओं और सेवाओं का कुल मूल्य, राष्ट्रीय आय को निरूपित करता है।

- Ans
- 1. अपूर्ण
 - 2. व्यावसायिक
 - 3. अंतिम
 - 4. मध्यस्थ

Question ID : 264330115336
Status : Answered
Chosen Option : 3

Section : Part-C-Elementary Mathematics

Q.1 A, B और C एक कार्य को 9 दिनों में पूरा कर सकते हैं और B उसी कार्य को 18 दिनों में पूरा कर सकता है। यदि B, C से 33.33% कम समय लेता है, तो C द्वारा कार्य को पूरा करने में लिया गया समय ज्ञात करें।

- Ans
- 1. 27 दिन
 - 2. 22 दिन
 - 3. 25 दिन
 - 4. 24 दिन

Question ID : 264330116867
Status : Answered
Chosen Option : 1

Q.2 मोहित और शिवम मिलकर एक काम को 4 दिनों में पूरा कर सकते हैं, शिवम और मुकेश मिलकर इसे 5 दिनों में पूरा कर सकते हैं तथा मोहित और मुकेश मिलकर इसे 6 दिनों में पूरा कर सकते हैं। मोहित, शिवम और मुकेश मिलकर इस काम को कितने दिनों में पूरा कर सकते हैं?

Ans

✗ 1. $2\frac{19}{37}$

✗ 2. $2\frac{9}{37}$

✗ 3. $3\frac{19}{37}$

✓ 4. $3\frac{9}{37}$

Question ID : 26433075567

Status : Answered

Chosen Option : 4

Q.3 यदि $x[-3\{-6(-a)\}]+6[-3\{-3(-a)\}]=6a$ है तो x का मान ज्ञात करें।

Ans ✗ 1. 9 :

✓ 2. $-\frac{10}{3}$

✗ 3. - 9

✗ 4. $\frac{10}{3}$

Question ID : 26433076260

Status : Answered

Chosen Option : 4

Q.4 यदि रामू का वेतन भीम के वेतन से 10% कम है, तो भीम का वेतन रामू के वेतन से कितने प्रतिशत अधिक है?

Ans ✓ 1. 11.11%

✗ 2. 90%

✗ 3. 10.00%

✗ 4. 80%

Question ID : 26433082644

Status : Answered

Chosen Option : 1

Q.5 1200 m की एक वृत्तीय दौड़ में A और B एक ही बिंदु से एक ही समय में क्रमशः 27 km/h और 45 km/h की चाल से दौड़ना शुरू करते हैं। एक ही दिशा में दौड़ते हुए वे ट्रैक पर पहली बार फिर से कब मिलेंगे?

- Ans
- 1. 200 sec
 - 2. 240 sec
 - 3. 180 sec
 - 4. 220 sec

Question ID : 26433079777
Status : Not Answered
Chosen Option : --

Q.6 समान लंबाई वाली दो ट्रेनें किसी खंभे को पार करने में क्रमशः 13 सेकंड और 26 सेकंड का समय लेती हैं। यदि ये ट्रेनें एक ही दिशा में चल रही हों, तो वे एक दूसरे को पार करने में कितना समय लेंगी?

- Ans
- 1. 40 सेकंड
 - 2. 39 सेकंड
 - 3. 52 सेकंड
 - 4. 50 सेकंड

Question ID : 26433074940
Status : Answered
Chosen Option : 3

Q.7 एक रासायनिक प्रयोगशाला में दो किस्म के अम्ल हैं। किस्म A की कीमत Rs.80 प्रति लीटर है, जबकि किस्म B की कीमत Rs.100 प्रति लीटर है। एक वैज्ञानिक को A और B दोनों किस्मों को किस अनुपात में मिलाना चाहिए, ताकि मिश्रण का मूल्य Rs.92 प्रति लीटर हो जाए?

- Ans
- 1. 2 : 3
 - 2. 5 : 4
 - 3. 4 : 7
 - 4. 5 : 6

Question ID : 26433075056
Status : Answered
Chosen Option : 1

Q.8 एक निर्माता किसी उत्पाद के अंकित मूल्य पर 25% की छूट प्रदान करता है। खुदरा विक्रेता घटी हुई कीमत पर एक और 28% की छूट प्रदान करता है। दी गई दो छूटों के समतुल्य एकल छूट क्या है?

- Ans
- 1. 41%
 - 2. 34%
 - 3. 38%
 - 4. 46%

Question ID : 26433063782
Status : Answered
Chosen Option : 2

Q.9 28 प्रतिशत की छूट के बाद एक वस्तु का विक्रय मूल्य 13392 रुपए हैं। वस्तु का अंकित मूल्य है:

- Ans
- 1. 14800 रुपए
 - 2. 18600 रुपए
 - 3. 15400 रुपए
 - 4. 16200 रुपए

Question ID : 264330116752
Status : Answered
Chosen Option : 2

Q.10 एक व्यक्ति गाड़ी से एक स्टोर तक जाता है, जिसके लिए वह 200 सेकंड में 100 m की दूरी तय करता है। फिर वह 400 सेकंड में एक और 200 m की दूरी तय करके दूसरे स्टोर पर गया। उसकी औसत चाल (m/s में) क्या है?

- Ans
- 1. 0.2
 - 2. 0.3
 - 3. 0.5
 - 4. 0.4

Question ID : 26433082961
Status : Answered
Chosen Option : 3

Q.11 $15\sqrt{3}$ cm त्रिज्या का लकड़ी का गोला है। गोले से काटे गए सबसे बड़े संभावित घन का कुल पृष्ठीय क्षेत्रफल कितना होगा?

- Ans
- 1. 540 cm^2
 - 2. $5,400 \text{ cm}^2$
 - 3. 600 cm^2
 - 4. 900 cm^2

Question ID : 26433075008
Status : Not Answered
Chosen Option : --

Q.12 टीना और शीना की आय 2 : 3 के अनुपात में है और उनका व्यय 3 : 5 के अनुपात में है। यदि प्रत्येक ₹1,000 की बचत करती है, तो टीना की आय _____ है।

- Ans
- 1. ₹6,000
 - 2. ₹4,000
 - 3. ₹8,000
 - 4. ₹5,000

Question ID : 26433082087
Status : Answered
Chosen Option : 2

Q.13 मनोज Rs.12 में 15 पेंसिलें खरीदता है और उन्हें Rs.1.50/पेंसिल की दर से बेचता है। उसका लाभ प्रतिशत क्या है?

- Ans 1. 46.67%
 2. 87.50%
 3. 64.67%
 4. 85.70%

Question ID : 26433080302
Status : Answered
Chosen Option : 2

Q.14 एक निर्माता अपने उत्पाद को 10% लाभ पर वितरक को बेचता है और वितरक उसे 5% लाभ पर ग्राहक को बेचता है। यदि ग्राहक के लिए क्रय मूल्य Rs.11,500 है, तो निर्माता द्वारा अर्जित लाभ (Rs. में) का निर्धारण कीजिए (अंश भाग को नज़रअंदाज करें)।

- Ans 1. 845
 2. 700
 3. 1205
 4. 995

Question ID : 26433071311
Status : Not Answered
Chosen Option : --

Q.15 भिन्नो $\frac{5}{8}, \frac{4}{9}, \frac{1}{4}, \frac{11}{18}$ का सही आरोही क्रम क्या है?

- Ans 1. $\frac{1}{4} < \frac{4}{9} < \frac{5}{8} < \frac{11}{18}$
 2. $\frac{4}{9} < \frac{1}{4} < \frac{11}{18} < \frac{5}{8}$
 3. $\frac{1}{4} < \frac{4}{9} < \frac{11}{18} < \frac{5}{8}$
 4. $\frac{1}{4} < \frac{11}{18} < \frac{4}{9} < \frac{5}{8}$

Question ID : 26433080321
Status : Answered
Chosen Option : 1

Q.16 राधा 14% वार्षिक चक्रवृद्धि ब्याज पर Rs.4,00,000 का ऋण लेती है, जो अर्ध-वार्षिक रूप से संयोजित होता है। वह 2 वर्ष बाद कितना ब्याज चुकाती है?

- Ans 1. Rs.1,24,398.40
 2. Rs.1,24,324.40
 3. Rs.1,24,375.40
 4. Rs.1,24,318.40

Question ID : 26433075322
Status : Answered
Chosen Option : 2

Q.17 दो प्राकृत संख्याओं का महत्तम समापवर्तक (HCF) और लघुत्तम समापवर्त्य (LCM) क्रमशः 7 और 84 है। यदि उन संख्याओं में से एक संख्या 7 है, तो दोनों संख्याओं के बीच का अंतर ज्ञात कीजिए।

- Ans
- 1. 91
 - 2. 77
 - 3. 7
 - 4. 84

Question ID : 26433087337
Status : Answered
Chosen Option : 4

Q.18 यदि $(x - y)$ का 85% = $(x + y)$ का 35% है, तो y, x का कितना प्रतिशत है?

- Ans
- 1. $38\frac{1}{5}\%$
 - 2. $46\frac{2}{3}\%$
 - 3. $20\frac{1}{5}\%$
 - 4. $41\frac{2}{3}\%$

Question ID : 26433080218
Status : Answered
Chosen Option : 4

Q.19 सोनिया को Rs.25,000 के ऋण पर 1 वर्ष की अवधि के लिए तिमाही आधार पर चक्रवृद्धित 12% प्रति वर्ष की दर से कितना ब्याज देना होगा (दो दशमलव स्थानों तक पूर्णांकित)?

- Ans
- 1. Rs.3,137.72
 - 2. Rs.3,000.00
 - 3. Rs.3,127.52
 - 4. Rs.2,137.72

Question ID : 26433080392
Status : Answered
Chosen Option : 3

Q.20 3 cm व्यास वाले कितने धात्विक गोलों को पिघलाकर 4 cm व्यास और 54 cm ऊंचाई वाले एक ठोस बेलन को निर्मित किया जा सकता है?

- Ans
- 1. 52
 - 2. 36
 - 3. 48
 - 4. 42

Question ID : 26433075208
Status : Answered
Chosen Option : 3

Q.1 Identify the correctly spelt sentence.

- Ans 1. There were two separate sections of students in my school.
 2. There were two separte sections of students in my school.
 3. There were two separte sections of students in my school.
 4. There were two seperate sections of students in my school.

Question ID : 26433072837
Status : Not Answered
Chosen Option : --

Q.2 Select the INCORRECTLY spelt word.

- Ans 1. Ravishing
 2. Inadvertent
 3. Irresponsible
 4. Capacious

Question ID : 26433073659
Status : Not Answered
Chosen Option : --

Q.3 Select the most appropriate option to fill in the blank.

She liked _____ flat.

- Ans 1. their
 2. they are
 3. they're
 4. there

Question ID : 26433084712
Status : Not Answered
Chosen Option : --

Q.4 Select the most appropriate option to fill in the blank.

We saw a _____ in the city last year.

- Ans 1. knew
 2. no
 3. gnu
 4. new

Question ID : 26433090386
Status : Not Answered
Chosen Option : --

Q.5 Select the correct option to substitute the underlined segment in the given sentence. If no substitution is required, select 'No substitution'.

It is more hot now.

- Ans
- 1. hotness now
 - 2. more hot then earlier
 - 3. hotter now
 - 4. No substitution

Question ID : 26433090818
Status : Not Answered
Chosen Option : --

Q.6 Select the most appropriate meaning of the underlined idiom in the given sentence.

She had to break the bank to buy that purse.

- Ans
- 1. To be very expensive
 - 2. To buy something exclusive
 - 3. To go beyond one's means
 - 4. To rob a bank

Question ID : 26433073760
Status : Not Answered
Chosen Option : --

Q.7 Select the most appropriate option to substitute the underlined segment in the given sentence.

Your work diary will of benefit if you use it and keep all the information updated.

- Ans
- 1. diary will be of benefit
 - 2. diary will benefit of
 - 3. diary will benefitted
 - 4. diary of benefit

Question ID : 26433093021
Status : Not Answered
Chosen Option : --

Q.8 Select the most appropriate meaning of the given idiom.

On the ball

- Ans
- 1. Unaware of any changes or developments and lazy to react to them
 - 2. Sceptic of changes or developments and thoughtful to react to them
 - 3. Aware of any changes or developments but avoid to react to them
 - 4. Aware of any changes or developments and quick to react to them

Question ID : 26433073648
Status : Not Answered
Chosen Option : --

Q.9 Select the most appropriate synonym of the capitalised word in the given sentence.

They tried to get official **SANCTIONS** for the scheme.

- Ans
- 1. Committees
 - 2. Permissions
 - 3. Unholiness
 - 4. Substances

Question ID : 26433088205
Status : Not Answered
Chosen Option : --

Q.10 Select the most appropriate ANTONYM of the given word.

Drenched

- Ans
- 1. Airy
 - 2. Damp
 - 3. Lively
 - 4. Fresh

Question ID : 26433072209
Status : Not Answered
Chosen Option : --

Q.11 Select the option that can be used as a one-word substitute for the given group of words.

The situation in which a disease is spread by touching someone or something

- Ans
- 1. Contagion
 - 2. Malleable
 - 3. Infected
 - 4. Fatal

Question ID : 26433089379
Status : Not Answered
Chosen Option : --

Q.12 The following sentence has been split into four segments. Identify the segment that contains a grammatical error.

Smith will / be learning / French when / they are arriving.

- Ans
- 1. they are arriving
 - 2. French when
 - 3. Smith will
 - 4. be learning

Question ID : 26433092274
Status : Not Answered
Chosen Option : --

Q.13 Select the most appropriate synonym of the given word.
Forbore

- Ans 1. Submit
 2. Refrain
 3. Surrender
 4. Yield

Question ID : 26433086485
Status : Not Answered
Chosen Option : --

Q.14 Select the most appropriate ANTONYM of the given word.

Bleak

- Ans 1. Fatigued
 2. Clustered
 3. Cordial
 4. Desolate

Question ID : 26433089101
Status : Not Answered
Chosen Option : --

Q.15 In the given sentence, a word is given in brackets. Select the most appropriate synonym of the word to fill in the blank.
The teacher has _____ (admitted) the student's sincere apologies.

- Ans 1. denied
 2. neglected
 3. acknowledged
 4. executed

Question ID : 26433058533
Status : Not Answered
Chosen Option : --

Comprehension:

In the following passage, some words have been deleted. Read the passage carefully and select the most appropriate option to fill in each blank.

Darwin planned to (1)_____ a book describing his (2)_____. He spent nearly twenty years (3)_____ the matter for his book, which was to deal with every known fact concerning the problem of the species. Unluckily for Darwin, a naturalist named Wallace had been (4)_____ over the same problems and had reached the same solution. He sent Darwin an essay which almost word for word repeated Darwin's own ideas. Yet Wallace, who was an (5)_____, had been working far away in the Malay Archipelago, whilst Darwin had not left England for several years.

SubQuestion No : 16

Q.16 Select the most appropriate option to fill in the blank 1.

- Ans 1. script
 2. write
 3. scribble
 4. paint

Question ID : 26433090556

Status : Not Answered

Chosen Option : --

Comprehension:

In the following passage, some words have been deleted. Read the passage carefully and select the most appropriate option to fill in each blank.

Darwin planned to (1)_____ a book describing his (2)_____. He spent nearly twenty years (3)_____ the matter for his book, which was to deal with every known fact concerning the problem of the species. Unluckily for Darwin, a naturalist named Wallace had been (4)_____ over the same problems and had reached the same solution. He sent Darwin an essay which almost word for word repeated Darwin's own ideas. Yet Wallace, who was an (5)_____, had been working far away in the Malay Archipelago, whilst Darwin had not left England for several years.

SubQuestion No : 17

Q.17 Select the most appropriate option to fill in the blank 2.

- Ans 1. articles
 2. facts
 3. failures
 4. discoveries

Question ID : 26433090557

Status : Not Answered

Chosen Option : --

Comprehension:

In the following passage, some words have been deleted. Read the passage carefully and select the most appropriate option to fill in each blank.

Darwin planned to (1)_____ a book describing his (2)_____. He spent nearly twenty years (3)_____ the matter for his book, which was to deal with every known fact concerning the problem of the species. Unluckily for Darwin, a naturalist named Wallace had been (4)_____ over the same problems and had reached the same solution. He sent Darwin an essay which almost word for word repeated Darwin's own ideas. Yet Wallace, who was an (5)_____, had been working far away in the Malay Archipelago, whilst Darwin had not left England for several years.

SubQuestion No : 18**Q.18 Select the most appropriate option to fill in the blank 3.**

- Ans 1. making
 2. collecting
 3. dispersing
 4. observing

Question ID : 26433090558

Status : Not Answered

Chosen Option : --

Comprehension:

In the following passage, some words have been deleted. Read the passage carefully and select the most appropriate option to fill in each blank.

Darwin planned to (1)_____ a book describing his (2)_____. He spent nearly twenty years (3)_____ the matter for his book, which was to deal with every known fact concerning the problem of the species. Unluckily for Darwin, a naturalist named Wallace had been (4)_____ over the same problems and had reached the same solution. He sent Darwin an essay which almost word for word repeated Darwin's own ideas. Yet Wallace, who was an (5)_____, had been working far away in the Malay Archipelago, whilst Darwin had not left England for several years.

SubQuestion No : 19**Q.19 Select the most appropriate option to fill in the blank 4.**

- Ans 1. dreaming
 2. saving
 3. searching
 4. thinking

Question ID : 26433090559

Status : Not Answered

Chosen Option : --

Comprehension:

In the following passage, some words have been deleted. Read the passage carefully and select the most appropriate option to fill in each blank.

Darwin planned to (1)_____ a book describing his (2)_____. He spent nearly twenty years (3)_____ the matter for his book, which was to deal with every known fact concerning the problem of the species. Unluckily for Darwin, a naturalist named Wallace had been (4)_____ over the same problems and had reached the same solution. He sent Darwin an essay which almost word for word repeated Darwin's own ideas. Yet Wallace, who was an (5)_____, had been working far away in the Malay Archipelago, whilst Darwin had not left England for several years.

SubQuestion No : 20

Q.20 Select the most appropriate option to fill in the blank 5.

- Ans
- 1. wanderer
 - 2. artist
 - 3. creator
 - 4. explorer

Question ID : 26433090560

Status : Not Answered

Chosen Option : --

Section : Part-D-Hindi

Q.1 मुहावरे और उनके अर्थ का निम्नलिखित में से कौन सा युग्म गलत है?

- Ans
- 1. हाथ पीले करना-असंभव को संभव करना
 - 2. लोहा मानना-श्रेष्ठता स्वीकार करना
 - 3. सुरखाब के पर-असाधारण विशेषता
 - 4. हथियार डालना-आत्मसमर्पण करना

Question ID : 26433062557

Status : Answered

Chosen Option : 1

Q.2 'लोग उपदेशक का अनुसरण करने में प्रसन्नता का _____ करेंगे।' रिक्त स्थान की पूर्ति उपयुक्त शब्द द्वारा कीजिए।

- Ans
- 1. उपवास
 - 2. अनुभव
 - 3. महसूस
 - 4. प्रतिफलन

Question ID : 26433080897

Status : Answered

Chosen Option : 3

Q.3 निम्न वाक्य में रेखांकित शब्द के स्थान पर उसका उपयुक्त पर्यायवाची शब्द विकल्पों में से कौन-सा होगा?

अधिक मेहनत से उसके चेहरे पर क्लांति आ गई।

- Ans
- 1. चमक
 - 2. थकान
 - 3. पसीना
 - 4. खुशी

Question ID : 26433066900
Status : Answered
Chosen Option : 2

Q.4 इस पुष्प की सुगंध मनभावन है।
उपरोक्त वाक्य में रेखांकित शब्द के विलोम शब्द का चयन विकल्पों में से कीजिए।

- Ans
- 1. सुगंधि
 - 2. आभा
 - 3. दुर्गंध
 - 4. स्कंध

Question ID : 26433079748
Status : Answered
Chosen Option : 3

Q.5 सुंदर का बेटा मोहन तो गुदड़ी का _____ है।
रिक्त स्थान की पूर्ति उचित शब्द द्वारा कीजिए।

- Ans
- 1. माल
 - 2. धागा
 - 3. लाल
 - 4. कपड़ा

Question ID : 26433062611
Status : Answered
Chosen Option : 3

Q.6 दिए गए वाक्यांश के लिए सार्थक शब्द बताइए-
'खाने योग्य पदार्थ'

- Ans
- 1. भोजनालय
 - 2. खाद्य
 - 3. भक्षण
 - 4. उपभोग

Question ID : 26433062592
Status : Answered
Chosen Option : 2

Q.7 विकल्पों में दिया गया कौन सा शब्द निम्नलिखित वाक्य में रेखांकित शब्द का पर्यायवाची नहीं है?
आग में तप कर ही 'सोना' खरा होता है।

- Ans
- 1. स्वर्ण
 - 2. कनक
 - 3. कंचन
 - 4. अयस

Question ID : 26433091334
Status : Answered
Chosen Option : 4

Q.8 निम्नलिखित में से अशुद्ध वाक्य कौन-सा है?

- Ans
- 1. नेता ने सभी लोगों से चर्चा की।
 - 2. अनन्या की आयु बीस वर्ष है।
 - 3. निशांत बहुत तेज दौड़ता है।
 - 4. अश्विन को केवल सौ रुपए मात्र मिले।

Question ID : 26433066987
Status : Answered
Chosen Option : 4

Q.9 "पानीपत की लड़ाई में मराठों की पराजय हुई।"
उक्त वाक्य में प्रयुक्त 'पराजय' के स्थान पर उसके विलोम शब्द का प्रयोग निम्न में से किस वाक्य में किया गया है?

- Ans
- 1. पानीपत की लड़ाई में मराठों की विजय हुई।
 - 2. पानीपत की लड़ाई में मराठों की शिकस्त हुई।
 - 3. पानीपत की लड़ाई में मराठों की हार हुई।
 - 4. पानीपत की लड़ाई में मराठों की अपकीर्ति हुई।

Question ID : 26433067023
Status : Answered
Chosen Option : 1

Q.10 विकल्पों में से निम्नलिखित वाक्यांश के लिए उपयुक्त शब्द चुनें।
जिसने पवित्र उद्देश्य के लिए जीवन दान किया हो

- Ans
- 1. धर्मात्मा
 - 2. हुतात्मा
 - 3. जीवात्मा
 - 4. दुरात्मा

Question ID : 26433069990
Status : Answered
Chosen Option : 2

Q.11 निम्नलिखित किस विकल्प में भाववाचक, समूहवाचक और जातिवाचक संज्ञा का शब्दक्रम सही है?

- Ans
- 1. चाँदी, पानी, दौड़
 - 2. कावेरी, दीवाली, वर्षा
 - 3. दासत्व, घोद, जुलाहा
 - 4. मकान, मैना, काला सागर

Question ID : 26433063029

Status : Answered

Chosen Option : 3

Q.12 निम्नलिखित में से कौन-सा वाक्य संज्ञा के प्रयोग की दृष्टि से शुद्ध है?

- Ans
- 1. चौकीदार पर ही चोर होने का उर है।
 - 2. चौकीदार पर ही चोर होने का संदेह है।
 - 3. चौकीदार पर ही चोर होने का हक है।
 - 4. चौकीदार पर ही चोर होने का विश्वास है।

Question ID : 26433066954

Status : Answered

Chosen Option : 2

Q.13 निम्न वाक्य में रेखांकित शब्द के स्थान पर सर्वोचित शब्द का चयन कीजिए।
गोलियों की बाढ़ के सामने कोई न टिक सका।

- Ans
- 1. बारिश
 - 2. गति
 - 3. दहाड़
 - 4. बौछार

Question ID : 26433065695

Status : Answered

Chosen Option : 4

Q.14 निम्नलिखित में से शुद्ध वाक्य है-

- Ans
- 1. कौन आदमी आ रह है?
 - 2. कौन अदमी आ रहा है?
 - 3. कौन आदमी आ रहा है?
 - 4. कौन आदमी अ रहा है?

Question ID : 26433066836

Status : Answered

Chosen Option : 3

Q.15 'जो बहुत बोलता है' वाक्यांश के लिए सार्थक शब्द है-

- Ans
- 1. पतित
 - 2. वक्ता
 - 3. वाचक
 - 4. वाचाल

Question ID : 26433065862

Status : Answered

Chosen Option : 4

Comprehension:

निम्नलिखित गद्यांश में से कुछ शब्द हटा दिए गए हैं। दिए गए विकल्पों की सहायता से रिक्त स्थानों की पूर्ति कीजिए। प्रत्येक संख्या के लिए उपयुक्त विकल्प का चयन कीजिए।

सामने 1. _____ में सूर्यास्त हो 2. _____ है। गुलाबी सुनहरी धारियाँ नीले आकाश में 3. _____ रही हैं। दूर-दूर 4. _____ पहाड़ों के मुखड़े गहराने लगे और देखते-देखते बत्तियाँ 5. _____ लगीं।

SubQuestion No : 16

Q.16 रिक्त स्थान 1 की पूर्ति के लिए सर्वाधिक उपयुक्त विकल्प का चयन कीजिए।

- Ans
- 1. बादल
 - 2. समुद्र
 - 3. धरती
 - 4. आकाश

Question ID : 26433079591

Status : Answered

Chosen Option : 4

Comprehension:

निम्नलिखित गद्यांश में से कुछ शब्द हटा दिए गए हैं। दिए गए विकल्पों की सहायता से रिक्त स्थानों की पूर्ति कीजिए। प्रत्येक संख्या के लिए उपयुक्त विकल्प का चयन कीजिए।

सामने 1. _____ में सूर्यास्त हो 2. _____ है। गुलाबी सुनहरी धारियाँ नीले आकाश में 3. _____ रही हैं। दूर-दूर 4. _____ पहाड़ों के मुखड़े गहराने लगे और देखते-देखते बत्तियाँ 5. _____ लगीं।

SubQuestion No : 17

Q.17 रिक्त स्थान 2 की पूर्ति के लिए सर्वाधिक उपयुक्त विकल्प का चयन कीजिए।

- Ans
- 1. रहे
 - 2. रहता
 - 3. रहा
 - 4. जाता

Question ID : 26433079592

Status : Answered

Chosen Option : 3

Comprehension:

निम्नलिखित गद्यांश में से कुछ शब्द हटा दिए गए हैं। दिए गए विकल्पों की सहायता से रिक्त स्थानों की पूर्ति कीजिए। प्रत्येक संख्या के लिए उपयुक्त विकल्प का चयन कीजिए।
सामने 1. _____ में सूर्यास्त हो 2. _____ है। गुलाबी सुनहरी धारियाँ नीले आकाश में 3. _____ रही हैं। दूर-दूर 4. _____ पहाड़ों के मुखड़े गहराने लगे और देखते-देखते बतियाँ 5. _____ लगीं।

SubQuestion No : 18

Q.18 रिक्त स्थान 3 की पूर्ति के लिए सर्वाधिक उपयुक्त विकल्प का चयन कीजिए।

- Ans
- 1. सो
 - 2. फैलाव
 - 3. लग
 - 4. फैल

Question ID : 26433079593

Status : Answered

Chosen Option : 4

Comprehension:

निम्नलिखित गद्यांश में से कुछ शब्द हटा दिए गए हैं। दिए गए विकल्पों की सहायता से रिक्त स्थानों की पूर्ति कीजिए। प्रत्येक संख्या के लिए उपयुक्त विकल्प का चयन कीजिए।
सामने 1. _____ में सूर्यास्त हो 2. _____ है। गुलाबी सुनहरी धारियाँ नीले आकाश में 3. _____ रही हैं। दूर-दूर 4. _____ पहाड़ों के मुखड़े गहराने लगे और देखते-देखते बतियाँ 5. _____ लगीं।

SubQuestion No : 19

Q.19 रिक्त स्थान 4 की पूर्ति के लिए सर्वाधिक उपयुक्त विकल्प का चयन कीजिए।

- Ans
- 1. पर्वत
 - 2. फैले
 - 3. फैलाव
 - 4. सोए

Question ID : 26433079594

Status : Answered

Chosen Option : 2

Comprehension:

निम्नलिखित गद्यांश में से कुछ शब्द हटा दिए गए हैं। दिए गए विकल्पों की सहायता से रिक्त स्थानों की पूर्ति कीजिए। प्रत्येक संख्या के लिए उपयुक्त विकल्प का चयन कीजिए।
सामने 1. _____ में सूर्यास्त हो 2. _____ है। गुलाबी सुनहरी धारियाँ नीले आकाश में 3. _____ रही हैं। दूर-दूर 4. _____ पहाड़ों के मुखड़े गहराने लगे और देखते-देखते बतियाँ 5. _____ लगीं।

SubQuestion No : 20

Q.20 रिक्त स्थान 5 की पूर्ति के लिए सर्वाधिक उपयुक्त विकल्प का चयन कीजिए।

- Ans
- 1. मिनमिमाने
 - 2. छुपने
 - 3. टिमटिमाने
 - 4. हिलने

Question ID : 26433079595

Status : Answered

Chosen Option : 3

Constable GD in CAPFs SSF Rifleman GD in Assam Rifles and Sepoy in NCB Examination 2022

Roll Number	KD Job Updates
Candidate Name	KD Job Updates
Venue Name	iON Digital Zone iDZ Kuberpur
Exam Date	23/01/2023
Exam Time	5:15 PM - 6:15 PM
Subject	Constable GD Examination 2022

Section : Part-A-General Intelligence and Reasoning

Q.1 किस विकल्प में निम्नलिखित शब्दों का वह क्रम दिया गया है, जिस क्रम में वे अंग्रेजी शब्दकोश में आते हैं।

- 1 Book
- 2 Bowl
- 3 Board
- 4 Boundary
- 5 Botanical

- Ans
- 1. 3,5,1,4,2
 - 2. 3,4,5,1,2
 - 3. 3,1,4,2,5
 - 4. 3,1,5,4,2

Question ID : 26433069268

Status : Answered

Chosen Option : 4

Q.2 उस विकल्प का चयन कीजिए, जो पाँचवें पद से उसी प्रकार संबंधित है, जिस प्रकार दूसरा पद पहले पद से और चौथा पद तीसरे पद से संबंधित है।

FUNS : JZJN :: STOP : WYKK :: DISK : ?

- Ans
- 1. HNOF
 - 2. GMPF
 - 3. GNOG
 - 4. HMPG

Question ID : 26433058011

Status : Answered

Chosen Option : 1

Q.3 एक निश्चित कूट भाषा में 'BUS' को 42 और 'COT' को 38 के रूप में कूटबद्ध किया जाता है। उस भाषा में 'DRUM' को कैसे कूटबद्ध किया जाएगा?

- Ans
- 1. 56
 - 2. 83
 - 3. 57
 - 4. 65

Question ID : 26433074519

Status : Answered

Chosen Option : 1

Q.4 उस विकल्प का चयन करें जो तिसरे पद से उसी प्रकार संबंधित है, जिस प्रकार दूसरा पद पहले पद से और छठा पद पांचवे पद से संबंधित है।

4 : 250 :: 5 : ? :: 6 : 1290

Ans 1. 535

2. 433

3. 619

4. 555

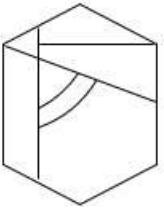
Question ID : 26433069095

Status : Not Answered

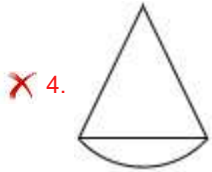
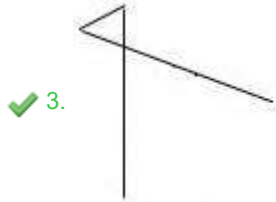
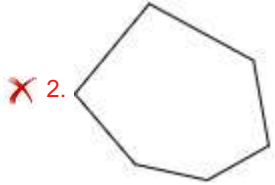
Chosen Option : --

Q.5 वह विकल्प चित्र चुनिए, जो प्रस्तुत चित्र में अंतर्निहित है। (घुमाना अनुमन्य नहीं

है)



Ans



KD Job Updates

Question ID : 26433069350

Status : Answered

Chosen Option : 3

Q.6 A @ B का अर्थ है 'A, B का पति है'।
A & B का अर्थ है 'A, B की माता है'।
A # B का अर्थ है 'A, B की पुत्री है'।
A % B का अर्थ है 'A, B का सहोदर है'।
यदि R% Y & D @ G # M है, तो M का दामाद R का _____ है।

- Ans
- 1. भाई
 - 2. पुत्र
 - 3. पोता
 - 4. भांजा

Question ID : 26433069615

Status : Not Answered

Chosen Option : --

Q.7 नीचे दिए गए समीकरण को गणितीय रूप से सही बनाने के लिए किन दो चिन्हों को परस्पर बदलना चाहिए?
 $24 + 54 \div 18 - 48 \times 16 = 40$

- Ans
- 1. + और -
 - 2. \times और +
 - 3. \div और \times
 - 4. \div और +

Question ID : 264330117506

Status : Answered

Chosen Option : 2

Q.8 उस विकल्प का चयन कीजिए जो तीसरे शब्द से उसी प्रकार संबंधित है जिस प्रकार दूसरा शब्द पहले शब्द से संबंधित है। (शब्दों को अर्थपूर्ण शब्दों के रूप में मानना है और उन्हें शब्द में अक्षरों/व्यंजनों/स्वरों की संख्या के आधार पर एक-दूसरे से संबंधित नहीं करना है।)
जनवरी : 31 :: मार्च : _____

- Ans
- 1. 28
 - 2. 30
 - 3. 31
 - 4. 29

Question ID : 26433078824

Status : Answered

Chosen Option : 3

Q.9 किसी निश्चित कूट भाषा में, 'candy grass' को, 'producer dog' के रूप में कूटबद्ध किया जाता है, 'feature cable' को, 'bug remote' के रूप में कूटबद्ध किया जाता है, 'grass feature' को, 'dog bug' के रूप में कूटबद्ध किया जाता है और 'candy cable' को, 'producer remote' के रूप में कूटबद्ध किया जाता है। 'candy' का कूट क्या है?

- Ans
- 1. bug
 - 2. remote
 - 3. dog
 - 4. producer

Question ID : 26433069042

Status : Answered

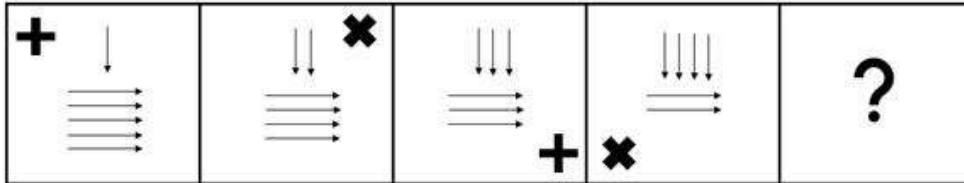
Chosen Option : 4

Q.10 निम्नलिखित में से कौन-सी संख्या दी गई श्रृंखला में प्रश्न-चिह्न (?) का स्थान लेगी?
286, 231, ?, 151, 126, 111

- Ans
- 1. 111
 - 2. 166
 - 3. 186
 - 4. 201

Question ID : 26433068097
Status : Answered
Chosen Option : 3

Q.11 उस आकृति का चयन करें, जो निम्न आकृति श्रृंखला में आगे आएगी।



Ans

- 1.
- 2.
- 3.
- 4.

Question ID : 26433076492
Status : Answered
Chosen Option : 4

Q.12 सात व्यक्ति A, B, C, D, E, F और G एक सीधी पंक्ति में उत्तर की ओर मुख करके बैठे हैं। A बाईं ओर से दूसरे स्थान पर बैठा है। A और C के बीच केवल दो व्यक्ति बैठे हैं। D और F के बीच केवल तीन व्यक्ति बैठे हैं, और D, A के ठीक बगल में है। B, D के ठीक बगल में है, और E, C के ठीक बगल में नहीं है। अंतिम दाएं सिरे पर कौन बैठा है?

- Ans 1. G
 2. F
 3. E
 4. D

Question ID : 26433056932

Status : Not Answered

Chosen Option : --

Q.13 नीचे दिए गए समीकरण को गणितीय रूप से सही बनाने के लिए किन दो चिह्नों को परस्पर बदलना चाहिए?

$$12 \times 6 + 9 \div 3 - 4 = 25$$

- Ans 1. \times और $+$
 2. \times और \div
 3. $+$ और $-$
 4. $+$ और $-$

Question ID : 264330114180

Status : Answered

Chosen Option : 1

Q.14 निम्नलिखित में से कौन-सी संख्या दी गई श्रृंखला में प्रश्न-चिह्न (?) के स्थान पर आएगी?
2, 6, 12, 20, 30, 42, 56, 72, ?

- Ans 1. 78
 2. 90
 3. 80
 4. 84

Question ID : 26433069046

Status : Answered

Chosen Option : 3

Q.15 निम्नलिखित में से कौन-सा अक्षर नीचे दी गई अक्षर श्रृंखला में प्रश्न-चिह्न (?) के स्थान पर आकर श्रृंखला को पूर्ण करेगा?
F, P, I, S, L, V, ?

- Ans 1. O
 2. N
 3. M
 4. L

Question ID : 26433067282

Status : Answered

Chosen Option : 1

Q.16 निम्नलिखित में से कौन-सा पद दी गई शृंखला में प्रश्न-चिह्न (?) के स्थान पर आएगा?
EHGD, FGHC, GFIB, ?

Ans 1. HEJA

2. BEJA

3. REJA

4. SEHA

Question ID : 26433068632

Status : Answered

Chosen Option : 1

Q.17 तीन कथनों के बाद तीन निष्कर्ष I, II और III दिए गए हैं। कथनों को सत्य मानते हुए, भले ही वे सामान्य रूप से ज्ञात तथ्यों से भिन्न प्रतीत होते हों, निर्धारित करें कि कौन-सा/से निष्कर्ष, कथनों का तार्किक रूप से अनुसरण करता है/करते हैं।

कथन:

सभी हाथ उंगलियां हैं।

सभी पैर उंगलियां हैं।

सभी उंगलियां 'पैर के अंगूठे' हैं।

निष्कर्ष:

I. सभी 'पैर के अंगूठे' उंगलियां हैं।

II. कुछ 'पैर के अंगूठे' हाथ हैं।

III. कुछ 'पैर के अंगूठे' पैर हैं।

Ans 1. केवल निष्कर्ष I और III अनुसरण करते हैं

2. केवल निष्कर्ष II और III अनुसरण करते हैं

3. सभी निष्कर्ष अनुसरण करते हैं

4. केवल निष्कर्ष I और II अनुसरण करते हैं

Question ID : 26433082312

Status : Answered

Chosen Option : 2

Q.18 दी गई आकृति के सही दर्पण प्रतिबिम्ब का चयन करें जब दर्पण को MN पर रखा जाए जैसा कि नीचे दर्शाया गया है।



Ans

- ✗ 1.
- ✗ 2.
- ✓ 3.
- ✗ 4.

Question ID : 26433085546
 Status : Answered
 Chosen Option : 3

Q.19 एक ही पासे की दो अलग-अलग स्थितियों को दर्शाया गया है जिस पर @, Δ, □, Ω, ∞ और * चिह्न बने हैं। '@' दर्शाने वाले फलक के विपरीत फलक पर स्थित चिह्न ज्ञात कीजिए।



Ans

- ✗ 1. Ω
- ✗ 2. Δ
- ✓ 3. ∞
- ✗ 4. *

Question ID : 26433085509
 Status : Answered
 Chosen Option : 3

Q.20 छः लड़कियां - D, K, M, P, R और S एक वृत्ताकार मेज के परितः मेज के केंद्र की ओर मुख करके बैठी हैं। S, R के बाईं ओर तीसरे स्थान पर बैठी है। P, R के दाईं ओर ठीक बगल में, और D के बाईं ओर ठीक बगल में बैठी है। M, R के बाईं ओर ठीक बगल में बैठी है। K, S के दाईं ओर ठीक बगल में, और M के बाईं ओर ठीक बगल में बैठी है। यदि D और K अपना स्थान बदल लेती हैं, तो इनमें से कौन D के दाईं ओर ठीक बगल में बैठी होगी?

- Ans
- 1. S
 - 2. R
 - 3. P
 - 4. M

Question ID : 26433080473
Status : Not Answered
Chosen Option : --

Section : Part-B-General Knowledge and General awareness

Q.1 जब 'निर्यात' आयात से अधिक होता है, तो इसे _____ की स्थिति के रूप में जाना जाता है।

- Ans
- 1. व्यापार घाटा
 - 2. व्यापार अधिशेष
 - 3. राजकोषीय घाटा
 - 4. राजस्व अधिशेष

Question ID : 26433054782
Status : Answered
Chosen Option : 2

Q.2 खेलो इंडिया यूथ गेम्स को पहले _____ के रूप में जाना जाता था।

- Ans
- 1. खेलो इंडिया जीतो इंडिया
 - 2. खेलो भारत
 - 3. जीतो इंडिया यूथ गेम्स
 - 4. खेलो इंडिया स्कूल गेम्स

Question ID : 264330115914
Status : Answered
Chosen Option : 1

Q.3 लोकसभा का सदस्य बनने के लिए न्यूनतम आयु कितनी होनी चाहिए?

- Ans
- 1. 23 वर्ष
 - 2. 18 वर्ष
 - 3. 22 वर्ष
 - 4. 25 वर्ष

Question ID : 26433074910
Status : Answered
Chosen Option : 4

Q.4 बर्मी भारत के किस पड़ोसी देश की राजभाषा है?

- Ans
- 1. नेपाल
 - 2. भूटान
 - 3. तिब्बत
 - 4. म्यांमार

Question ID : 264330116100

Status : Answered

Chosen Option : 2

Q.5 अप्रैल 2022 में, दिल्ली के नए मुख्य सचिव के रूप में किसे नामित किया गया था?

- Ans
- 1. नरेश कुमार
 - 2. अमित सिंह
 - 3. संजय प्रसाद
 - 4. केशव प्रसाद मौर्य

Question ID : 264330114996

Status : Answered

Chosen Option : 2

Q.6 भारत में शरद का मौसम निम्नलिखित में से किस महीने के अंतराल के अंतर्गत आता है?

- Ans
- 1. मार्च से मई
 - 2. अक्टूबर से नवम्बर
 - 3. दिसम्बर से फरवरी
 - 4. जून से सितम्बर

Question ID : 264330115540

Status : Answered

Chosen Option : 3

Q.7 विश्वरूपम फिल्म के लिए सर्वश्रेष्ठ कोरियोग्राफी का राष्ट्रीय फिल्म पुरस्कार _____ को दिया गया था।

- Ans
- 1. अमाला अक्किनेनी
 - 2. एम आर कृष्णमूर्ति
 - 3. कलामंडलम गोपी
 - 4. पंडित बिरजू महाराज

Question ID : 264330115862

Status : Not Answered

Chosen Option : --

Q.8 किसी भी क्षेत्र का दाब एवं पवन तंत्र किस पर निर्भर करता है?

- Ans
- 1. स्थान का अक्षांश और ऊँचाई
 - 2. ऊँचाई और देशांतर
 - 3. समुद्र से दूरी और अक्षांश
 - 4. देशांतर और समुद्र से दूरी

Question ID : 26433087881

Status : Not Answered

Chosen Option : --

Q.9 भारतीय राष्ट्रीय कांग्रेस की स्थापना कब हुई थी?

- Ans
- 1. 1875
 - 2. 1865
 - 3. 1885
 - 4. 1895

Question ID : 26433090583

Status : Answered

Chosen Option : 3

Q.10 कंपनी (संशोधन) विधेयक, 2020 को लोकसभा में किस मंत्री द्वारा पेश किया गया था?

- Ans
- 1. अनुराग सिंह ठाकुर
 - 2. रमेश बिधुरी
 - 3. गौतम गंभीर
 - 4. नितिन गडकरी

Question ID : 264330116208

Status : Not Answered

Chosen Option : --

Q.11 अनुच्छेद _____ से _____ अन्य बातों के साथ-साथ राष्ट्रपति की योग्यता, कार्य और उनके कार्यकाल, निर्वाचन, पुनर्निर्वाचन की विधि और महाभियोग का वर्णन करते हैं।

- Ans
- 1. 50; 55
 - 2. 50; 60
 - 3. 52; 62
 - 4. 19; 21

Question ID : 26433089907

Status : Answered

Chosen Option : 3

Q.12 भगवान महावीर ने _____ वर्ष की आयु में घर छोड़ दिया और ज्ञान की तलाश में वे एक जंगल में रहने चले गए।

- Ans 1. तीस
 2. उन्तीस
 3. बत्तीस
 4. अट्ठाईस

Question ID : 26433085210
Status : Answered
Chosen Option : 2

Q.13 निम्नलिखित में से किस नियम के अनुसार, विद्युत धारा द्वारा उत्पन्न ऊष्मा चालक के प्रतिरोध, धारा के वर्ग और इसके प्रवाहित होने के समय के समानुपाती होती है?

- Ans 1. जूल नियम
 2. हुक का नियम
 3. फेराडे का नियम
 4. कूलम्ब का नियम

Question ID : 264330115147
Status : Answered
Chosen Option : 4

Q.14 ड्री (Dree), अरुणाचल प्रदेश का एक कृषि उत्सव है, यह _____ के महीने में मनाया जाता है।

- Ans 1. जून
 2. मई
 3. जुलाई
 4. अगस्त

Question ID : 264330115085
Status : Answered
Chosen Option : 2

Q.15 केंद्रक झिल्ली द्वारा केंद्रक को _____ से अलग किया जाता है।

- Ans 1. जीन
 2. कोशिका
 3. कोशिका द्रव्य
 4. रिक्तिका

Question ID : 264330115241
Status : Not Attempted and Marked For Review
Chosen Option : --

Q.16 व्यापार का _____ शेष वह होता है जिसमें जिसमें निर्यात की गई घरेलू वस्तुओं का मूल्य आयातित विदेशी वस्तुओं के मूल्य से अधिक होता है।

- Ans
- 1. प्रतिकूल
 - 2. अनुकूल
 - 3. अवांछनीय
 - 4. गरीब

Question ID : 264330115293

Status : Answered

Chosen Option : 3

Q.17 _____ के दौरान मुख्य फोकस सार्वजनिक क्षेत्र पर था, और इस दौरान देश में तेजी से औद्योगीकरण लाने की योजना बनाई गई थी।

- Ans
- 1. भारत में दूसरी पंचवर्षीय योजना
 - 2. भारत में प्रथम पंचवर्षीय योजना
 - 3. भारत में तीसरी पंचवर्षीय योजना
 - 4. भारत में पांचवीं पंचवर्षीय योजना

Question ID : 264330115365

Status : Answered

Chosen Option : 1

Q.18 निम्नलिखित राजनीतिक नेताओं में से कौन जून 2022 में पंजाब के संगरूर निर्वाचन क्षेत्र से संसद सदस्य बने?

- Ans
- 1. अरविंद केजरीवाल
 - 2. आजम खान
 - 3. भगवंत मान
 - 4. सिमरनजीत सिंह मान

Question ID : 264330114899

Status : Answered

Chosen Option : 3

Q.19 स्वामी विवेकानंद के जन्मदिन के उपलक्ष्य में 23वां राष्ट्रीय युवा महोत्सव _____ में आयोजित किया गया था।

- Ans
- 1. मुंबई
 - 2. दिल्ली
 - 3. देहरादून
 - 4. लखनऊ

Question ID : 264330116276

Status : Answered

Chosen Option : 3

Q.20 संगीत नाटक अकादमी द्वारा मई 2022 तक कितने भारतीय नृत्यों को शास्त्रीय नृत्य के रूप में मान्यता दी गई है?

- Ans
- 1. 10
 - 2. 12
 - 3. 5
 - 4. 8

Question ID : 26433074071

Status : Answered

Chosen Option : 4

Section : Part-C-Elementary Mathematics

Q.1 चार गायों को 30 m लंबाई और 20 m चौड़ाई के आयताकार खेत के 4 कोनों (प्रत्येक कोने पर एक) पर बांधा गया है। रस्सी की लंबाई 7 m है। खेत का ऐसा कितना क्षेत्र है जहाँ गायें चर नहीं सकती हैं? ($\pi = 22/7$ का उपयोग करें)

- Ans
- 1. 414 m²
 - 2. 446 m²
 - 3. 424 m²
 - 4. 434 m²

Question ID : 26433075478

Status : Not Answered

Chosen Option : --

Q.2 एक नाव धारा के दिशा में 12 km की दूरी 4 घंटे में तय करती है। यह धारा के विपरीत दिशा में 6 km की दूरी उतने समय में ही तय करती है। शांत जल में नाव की चाल (km/h में) ज्ञात कीजिए।

- Ans
- 1. 2.25
 - 2. 3.12
 - 3. 1.11
 - 4. 1.16

Question ID : 26433080050

Status : Answered

Chosen Option : 1

Q.3 किसी धनराशि को A, B और C के बीच 5 : 7 : 11 के अनुपात में बाँटा जाना है। यदि B को A से ₹1,500 अधिक मिलते हैं, तो B का हिस्सा क्या है?

- Ans
- 1. ₹6,750
 - 2. ₹3,750
 - 3. ₹8,250
 - 4. ₹5,250

Question ID : 26433080115

Status : Answered

Chosen Option : 4

Q.4 दो ट्रेने A और B एक सीधी रेखा पर एकदूसरे से 155 km की दूरी पर हैं। एक ट्रेन A से, 7:00 A.M. पर 20 km/h की चाल से B की ओर चलती है। दूसरी ट्रेन B से, 8:00 A.M. पर 25 km/h की चाल से A की ओर चलती है। वे किस समय मिलेंगी?

- Ans
- 1. 10:00 A.M.
 - 2. 12:00 A.M.
 - 3. 9:00 A.M.
 - 4. 11:00 A.M.

Question ID : 26433075506

Status : Not Answered

Chosen Option : --

Q.5 A और B मिलकर एक कार्य को 8 दिनों में पूरा कर सकते हैं। A अकेले इसे 16 दिनों में पूरा कर सकता है। यदि B 50 प्रतिशत क्षमता से कार्य करता है, तो A और B मिलकर कार्य को कितने दिनों में पूरा करेंगे?

- Ans
- 1. 55/7 दिन
 - 2. 47/3 दिन
 - 3. 34/3 दिन
 - 4. 32/3 दिन

Question ID : 264330116892

Status : Answered

Chosen Option : 4

Q.6 प्रथम 9 अभाज्य संख्याओं का औसत ज्ञात कीजिए।

- Ans
- 1. $\frac{98}{9}$
 - 2. $10\frac{2}{9}$
 - 3. $11\frac{2}{9}$
 - 4. $11\frac{1}{9}$

Question ID : 26433075716

Status : Not Answered

Chosen Option : --

Q.7 छः क्रमागत विषम संख्याओं का औसत 68 है। सबसे बड़ी और सबसे छोटी संख्या के बीच के अंतर का घन कितना है?

- Ans
- 1. 729
 - 2. 1331
 - 3. 1000
 - 4. 512

Question ID : 26433075755

Status : Marked For Review

Chosen Option : 4

Q.8 एक दुकानदार ने पाया कि उत्पाद का विक्रय मूल्य क्रय मूल्य का 90% है। विक्रय मूल्य Rs.90/kg है, अतः लाभ प्राप्त करने के लिए वह 1 kg के स्थान पर केवल 800 ग्राम तौलता है। इस उत्पाद के 1 kg को बेचने पर दुकानदार द्वारा अर्जित लाभ (रुपये में) ज्ञात कीजिए।

- Ans
- 1. 15
 - 2. 20
 - 3. 10
 - 4. 25

Question ID : 26433071314
Status : Answered
Chosen Option : 1

Q.9 प्रियांक सुसज्जित ना किया हुआ एक फ्लैट 6000000 रुपए में खरीदता है। उन्होंने इसे सुसज्जित किया और अंततः इसे 12000000 रुपए में बेच दिया। फ्लैट के मूल्य में प्रतिशत वृद्धि है:

- Ans
- 1. 60 प्रतिशत
 - 2. 100 प्रतिशत
 - 3. 40 प्रतिशत
 - 4. 50 प्रतिशत

Question ID : 264330116812
Status : Answered
Chosen Option : 2

Q.10 दो संख्याओं का महत्तम समापवर्तक (HCF) और लघुतम समापवर्त्य (LCM) क्रमशः 6 और 3024 है। यदि एक संख्या 54 है, तो दूसरी संख्या ज्ञात करें।

- Ans
- 1. 506
 - 2. 336
 - 3. 334
 - 4. 504

Question ID : 26433080088
Status : Answered
Chosen Option : 2

Q.11 रलेश ने एक बाइक Rs.64,000 में खरीदी और उसे Rs.60,000 में बेच दिया। रलेश को कितने प्रतिशत हानि का सामना करना पड़ा?

- Ans
- 1. 5.25%
 - 2. 6.00%
 - 3. 6.25%
 - 4. 5.65%

Question ID : 26433080301
Status : Answered
Chosen Option : 3

Q.12 अंकित मूल्य पर 15% की छूट के बाद, लाभ 5% है। 8% लाभ प्राप्त करने के लिए अंकित मूल्य पर कितने प्रतिशत की छूट होनी चाहिए (एक दशमलव स्थान तक पूर्णांकित)?

- Ans
- 1. 12.6%
 - 2. 10.2%
 - 3. 11.5%
 - 4. 9.2%

Question ID : 26433085448

Status : Answered

Chosen Option : 4

Q.13 दो व्यक्ति P और Q मिलकर कार्य करते हुए किसी कार्य को 18 दिनों में पूरा कर सकते हैं। Q अकेले इसे 36 दिनों में कर सकता है। Q ने कार्य करना प्रारंभ किया और 6 दिन कार्य करने के बाद उसने कार्य छोड़ दिया। फिर P ने शेष कार्य अपने हाथ में ले लिया। शेष कार्य पूरा करने में P को कितने दिन लगेंगे?

- Ans
- 1. 30
 - 2. 40
 - 3. 50
 - 4. 20

Question ID : 26433074463

Status : Answered

Chosen Option : 1

Q.14 एक विक्रेता ने एक पंखे के अंकित मूल्य पर 30% की छूट की घोषणा की। यदि पंखे का विक्रय मूल्य Rs.2,800 है, तो पंखे का अंकित मूल्य कितना था?

- Ans
- 1. Rs.2,930
 - 2. Rs.3,000
 - 3. Rs.3,500
 - 4. Rs.4,000

Question ID : 26433083038

Status : Answered

Chosen Option : 4

Q.15 दो उम्मीदवारों के बीच एक चुनाव में, डाले गए मतों के 58% मत प्राप्त करने वाला व्यक्ति 4,032 मतों के बहुमत से निर्वाचित होता है। डाले गए मतों की कुल संख्या कितनी है?

- Ans
- 1. 24,800
 - 2. 25,800
 - 3. 24,600
 - 4. 25,200

Question ID : 26433080358

Status : Answered

Chosen Option : 4

Q.16 एक व्यक्ति एक निश्चित धनराशि उधार लेता है और उसका भुगतान 2 वर्षों में दो समान किश्तों में कर देता है। यदि वार्षिक चक्रवृद्धि के मामले में चक्रवृद्धि ब्याज की गणना 5% प्रतिवर्ष की दर से की जाती है और वह वार्षिक रूप से Rs.882 का भुगतान करता है, तो उसने कितनी धनराशि उधार ली थी?

- Ans
- 1. Rs.1,682
 - 2. Rs.1,650
 - 3. Rs.1,640
 - 4. Rs.1,600

Question ID : 26433075502
Status : Answered
Chosen Option : 4

Q.17 निम्न में से कौन-सी संख्या 24 से विभाज्य है?

- Ans
- 1. 2940
 - 2. 1458
 - 3. 2856
 - 4. 1860

Question ID : 26433079901
Status : Answered
Chosen Option : 3

Q.18 यदि 8 और 18 का तीसरा समानुपात 2, 81 और $x^2 + 2x + 2$ के चौथे समानुपात के समान है, तो x का मान ज्ञात करें।

- Ans
- 1. 2
 - 2. 1
 - 3. -2
 - 4. -1

Question ID : 26433079944
Status : Answered
Chosen Option : 3

Q.19 एक निश्चित राशि के लिए 20% प्रति वर्ष की ब्याज दर पर $1\frac{1}{2}$ वर्ष के चक्रवृद्धि और साधारण ब्याज के बीच का अंतर Rs.6,200 है, जब ब्याज अर्ध-वार्षिक रूप से चक्रवृद्धि किया जाता है, तो वह धनराशि ज्ञात कीजिए।

- Ans
- 1. Rs. 2,15,520
 - 2. Rs. 2,00,000
 - 3. Rs. 2,12,000
 - 4. Rs. 2,10,300

Question ID : 26433083046
Status : Answered
Chosen Option : 2

Q.20 एक लम्ब वृत्तीय बेलन का आयतन 180 cm^3 , इसके आधार का क्षेत्रफल 30 cm^2 और ऊँचाई 6 cm है, तो बेलन का व्यास (cm में) _____ है।

Ans

✓ 1. $2\sqrt{\frac{30}{\pi}}$

✗ 2. $\sqrt{30}$

✗ 3. $\sqrt{\frac{30}{\pi}}$

✗ 4. $2\sqrt{30}$

Question ID : 26433079974

Status : Answered

Chosen Option : 1

Section : Part-D-English

Q.1 Select the most appropriate synonym of the word given in the brackets to fill in the blank.

The increasing population of a country can be a _____ (affliction) for the development of a country.

Ans ✓ 1. bane

✗ 2. boon

✗ 3. brittleness

✗ 4. boom

Question ID : 26433071890

Status : Not Answered

Chosen Option : --

Q.2 Select the correctly spelt word.

Ans ✗ 1. Ricipit

✗ 2. Reicipit

✗ 3. Reciept

✓ 4. Receipt

Question ID : 26433086495

Status : Not Answered

Chosen Option : --

Q.3 Select the most appropriate ANTONYM of the given word.

Ponderous

- Ans 1. Adverse
 2. Swollen
 3. Obligated
 4. Graceful

Question ID : 26433071837
Status : Not Answered
Chosen Option : --

Q.4 Select the most appropriate ANTONYM of the given word.

Alienate

- Ans 1. Alternate
 2. Alter
 3. Renounce
 4. Reconcile

Question ID : 26433074440
Status : Not Answered
Chosen Option : --

Q.5 Select the most appropriate meaning of the given idiom.

Gate-crasher

- Ans 1. A blind person
 2. Thick grass
 3. A person who enters an event without any invitation
 4. A cobra that lives in gardens

Question ID : 26433072575
Status : Not Answered
Chosen Option : --

Q.6 Select the most appropriate option to fill in the blank.

APJ Abdul Kalam was born in a middle class family. He was a short boy _____ ordinary looks.

- Ans 1. with as
 2. neither
 3. with rather
 4. with either

Question ID : 26433072728
Status : Not Answered
Chosen Option : --

Q.7 Select the most appropriate meaning of the given idiom.

Bear a grudge

- Ans
- 1. To entertain the guests with utmost happiness
 - 2. To consider people with kindness and care
 - 3. To feel satisfied with the achievements
 - 4. To feel angry against somebody for a past incident

Question ID : 26433073480
Status : Not Answered
Chosen Option : --

Q.8 Select the most appropriate ANTONYM to substitute the underlined word in the given sentence.

This certainly was a feeble attempt to capture the culprit.

- Ans
- 1. enviable
 - 2. treble
 - 3. refraining
 - 4. powerful

Question ID : 26433074011
Status : Not Answered
Chosen Option : --

Q.9 Select the option that expresses the given sentence in past tense form.

Aksa Thomas comes to attend the session so early.

- Ans
- 1. Aksa Thomas may come to attend the session so early.
 - 2. Aksa Thomas came to attend the session so early.
 - 3. Aksa Thomas has come to attend the session so early.
 - 4. Aksa Thomas will come to attend the session so early.

Question ID : 26433089297
Status : Not Answered
Chosen Option : --

Q.10 Select the most appropriate option to fill in the blank.

He is usually calm but today he appears rather _____.

- Ans
- 1. disturbed
 - 2. quiet
 - 3. undisturbed
 - 4. relaxed

Question ID : 26433074065
Status : Not Answered
Chosen Option : --

Q.11 Select the most appropriate option that can substitute the underlined segment in the given sentence.

Dogs are the most adorable and lovable beings to tie.

- Ans
- 1. beings to see
 - 2. pets to keep
 - 3. animals to play
 - 4. organisms to watch

Question ID : 26433088504
Status : Not Answered
Chosen Option : --

Q.12 Select the most appropriate synonym of the given word.

Eligible

- Ans
- 1. Sufficient
 - 2. Efficient
 - 3. Qualified
 - 4. Disinterested

Question ID : 26433073394
Status : Not Answered
Chosen Option : --

Q.13 Select the most appropriate option that can substitute the underlined segment in the given sentence.

The collision was witnessed by the pedestrians.

- Ans
- 1. protest march
 - 2. violent accident
 - 3. funeral procession
 - 4. powerful blast

Question ID : 26433099871
Status : Not Answered
Chosen Option : --

Q.14 Select the INCORRECTLY spelt word.

- Ans
- 1. Thankful
 - 2. Merciful
 - 3. Plentiful
 - 4. Dutyful

Question ID : 26433073502
Status : Not Answered
Chosen Option : --

Q.15 Select the most appropriate synonym of the given word.

Ample

- Ans
- 1. Sample
 - 2. Temple
 - 3. Entertain
 - 4. Sufficient

Question ID : 26433072188

Status : Not Answered

Chosen Option : --

Comprehension:

In the following passage, some words have been deleted. Read the passage carefully and select the most appropriate option to fill in each blank.

Reaching the stall from which the sound was emanating, he saw that it was deserted. It was festooned (1)_____ flowers: blue-bells and foxgloves and harebells and daffodils, but also with violets and lilies. The use and function of these flowers is chiefly (2)_____; they bring pleasure; they can be given to a loved one as a token of admiration and affection, and the sound they make is pleasing (3)_____ the ear. Also, they catch the light (4)_____ delightfully. Dustan could not but observe that the colour of sunlight glittering through the purple crystal was inferior in both (5)_____ to that of her eyes.

SubQuestion No : 16

Q.16 Select the most appropriate option to fill in blank number 1.

- Ans
- 1. with
 - 2. on
 - 3. by
 - 4. upon

Question ID : 26433060871

Status : Not Answered

Chosen Option : --

Comprehension:

In the following passage, some words have been deleted. Read the passage carefully and select the most appropriate option to fill in each blank.

Reaching the stall from which the sound was emanating, he saw that it was deserted. It was festooned (1)_____ flowers: blue-bells and foxgloves and harebells and daffodils, but also with violets and lilies. The use and function of these flowers is chiefly (2)_____; they bring pleasure; they can be given to a loved one as a token of admiration and affection, and the sound they make is pleasing (3)_____ the ear. Also, they catch the light (4)_____ delightfully. Dustan could not but observe that the colour of sunlight glittering through the purple crystal was inferior in both (5)_____ to that of her eyes.

SubQuestion No : 17

Q.17 Select the most appropriate option to fill in blank number 2.

- Ans
- 1. glittering
 - 2. repellent and frivolous
 - 3. admiration and affection
 - 4. decorative and recreational

Question ID : 26433060872

Status : Not Answered

Chosen Option : --

Comprehension:

In the following passage, some words have been deleted. Read the passage carefully and select the most appropriate option to fill in each blank.

Reaching the stall from which the sound was emanating, he saw that it was deserted. It was festooned (1) _____ flowers: blue-bells and foxgloves and harebells and daffodils, but also with violets and lilies. The use and function of these flowers is chiefly (2) _____; they bring pleasure; they can be given to a loved one as a token of admiration and affection, and the sound they make is pleasing (3) _____ the ear. Also, they catch the light (4) _____ delightfully. Dustan could not but observe that the colour of sunlight glittering through the purple crystal was inferior in both (5) _____ to that of her eyes.

SubQuestion No : 18

Q.18 Select the most appropriate option to fill in blank number 3.

- Ans**
- 1. for
 - 2. as far as
 - 3. to
 - 4. upon

Question ID : 26433060873

Status : Not Answered

Chosen Option : --

Comprehension:

In the following passage, some words have been deleted. Read the passage carefully and select the most appropriate option to fill in each blank.

Reaching the stall from which the sound was emanating, he saw that it was deserted. It was festooned (1) _____ flowers: blue-bells and foxgloves and harebells and daffodils, but also with violets and lilies. The use and function of these flowers is chiefly (2) _____; they bring pleasure; they can be given to a loved one as a token of admiration and affection, and the sound they make is pleasing (3) _____ the ear. Also, they catch the light (4) _____ delightfully. Dustan could not but observe that the colour of sunlight glittering through the purple crystal was inferior in both (5) _____ to that of her eyes.

SubQuestion No : 19

Q.19 Select the most appropriate option to fill in blank number 4.

- Ans**
- 1. so
 - 2. more
 - 3. much
 - 4. such

Question ID : 26433060874

Status : Not Answered

Chosen Option : --

Comprehension:

In the following passage, some words have been deleted. Read the passage carefully and select the most appropriate option to fill in each blank.

Reaching the stall from which the sound was emanating, he saw that it was deserted. It was festooned (1)_____ flowers: blue-bells and foxgloves and harebells and daffodils, but also with violets and lilies. The use and function of these flowers is chiefly (2)_____; they bring pleasure; they can be given to a loved one as a token of admiration and affection, and the sound they make is pleasing (3)_____ the ear. Also, they catch the light (4) _____ delightfully. Dustan could not but observe that the colour of sunlight glittering through the purple crystal was inferior in both (5) _____ to that of her eyes.

SubQuestion No : 20

Q.20 Select the most appropriate option to fill in blank number 5.

- Ans 1. aroma and fragrance
 2. hue and shade
 3. shape and size
 4. texture and touch

Question ID : 26433060875

Status : Not Answered

Chosen Option : --

Section : Part-D-Hindi

Q.1 वर्तनी की दृष्टि से शुद्ध वाक्य का चयन कीजिए-

- Ans 1. वह मरणासन्न था, इसीलिए मैंने उसे छमा कर दिया।
 2. विनय चुसत न हो पर है समझदार।
 3. यदि वह घर पर मिलेगा तो मैं अवश्य जाऊँगा।
 4. ज्यों ही मैं वहाँ पहुँचा त्यों ही घंटा बजा।

Question ID : 26433062896

Status : Answered

Chosen Option : 4

Q.2 निम्नलिखित में से 'अंतर' का अर्थ नहीं होता है-

- Ans 1. हृदय
 2. दूरी
 3. शेष
 4. आकाश

Question ID : 26433080948

Status : Answered

Chosen Option : 1

Q.3 'अपना हस्ताक्षर लगा दो।' इस वाक्य में रेखांकित शब्द के स्थान पर उपयुक्त शब्द के प्रयोग से वाक्य को शुद्ध करें।

- Ans
- 1. मिला
 - 2. कर
 - 3. जोड़
 - 4. सटा

Question ID : 26433062207
Status : Answered
Chosen Option : 2

Q.4 'फूंक से पहाड़ उड़ाना' मुहावरे का सही अर्थ है -

- Ans
- 1. बड़ा काम करना
 - 2. असम्भव कार्य करने की कोशिश करना
 - 3. बड़ी-बड़ी बातें करना
 - 4. झूठी बातें करना

Question ID : 26433065928
Status : Answered
Chosen Option : 2

Q.5 'संपन्न को सब सुख प्राप्त हो जाते हैं और _____ सदा तरसता ही रह जाता है।' 'संपन्न' के विलोम शब्द से उक्त वाक्य पूर्ण करें।

- Ans
- 1. वीर
 - 2. अपंग
 - 3. विपन्न
 - 4. शाही

Question ID : 26433080874
Status : Marked For Review
Chosen Option : 2

Q.6 निम्नलिखित में से अशुद्ध वाक्य कौन-सा है?

- Ans
- 1. मेरे प्राण निकल गए।
 - 2. राजीव ने भरपेट खाना खाया।
 - 3. केशव रोटी खा लिया है।
 - 4. अक्षत पाठशाला से सीधे घर चला गया।

Question ID : 26433066984
Status : Answered
Chosen Option : 3

Q.7 'जो पृथ्वी से संबद्ध है' वाक्यांश के लिए इनमें से सही शब्द क्या है?

- Ans
- 1. पहाड़
 - 2. पर्वत
 - 3. पार्थिव
 - 4. पठार

Question ID : 26433070148

Status : Answered

Chosen Option : 3

Q.8 "इस विषय पर प्राचार्य ने क्या निर्णय किया?"

इस वाक्य में क्रिया सम्बन्धी त्रुटि पहचानकर निम्नलिखित में से शुद्ध वाक्य का चयन कीजिए।

- Ans
- 1. इस विषय पर प्राचार्य ने क्या निर्णय प्रदान किया?
 - 2. इस विषय पर प्राचार्य ने क्या निर्णय कहा?
 - 3. इस विषय पर प्राचार्य ने क्या निर्णय लिया?
 - 4. इस विषय पर प्राचार्य ने क्या निर्णय दिया?

Question ID : 26433066972

Status : Answered

Chosen Option : 3

Q.9 'रसोईघर _____ ।'

उपर्युक्त वाक्य में रिक्त स्थान के लिए उपयुक्त विकल्प निम्न में से क्या होगा?

- Ans
- 1. का अर्थ है- रसोइये का घर
 - 2. का अर्थ है- रसोई का घर
 - 3. का अर्थ है- रसोई में बना हुआ घर
 - 4. का अर्थ है- रसोई का बनाया हुआ घर

Question ID : 26433067042

Status : Answered

Chosen Option : 1

Q.10 'दूसरों की उन्नति को देखकर जलने वाला' इस वाक्यांश के लिए सार्थक शब्द है -

- Ans
- 1. क्रोधी
 - 2. गुस्सैल
 - 3. कृपालु
 - 4. ईर्ष्यालु

Question ID : 26433062331

Status : Answered

Chosen Option : 4

Q.11 "लड़कों ने लड़कियों से साथ नाचा।"
उपरोक्त वाक्य में कारक सम्बन्धी त्रुटि पहचानकर निम्नलिखित में से शुद्ध वाक्य का चयन कीजिए।

- Ans
- 1. लड़के लड़कियों के साथ नाचे।
 - 2. लड़के लड़कियों ने साथ नाचे।
 - 3. लड़कों ने लड़कियों से नाचे।
 - 4. लड़कों ने लड़कियों के साथ नाचा।

Question ID : 26433066968

Status : Answered

Chosen Option : 1

Q.12 'भेंट' के दो अर्थों में से एक अर्थ 'मुलाकात' है। दूसरे अर्थ से निम्न वाक्य को पूर्ण कीजिए।
अतिथि को _____ देकर सम्मानित किया गया।

- Ans
- 1. पुष्पगुच्छ
 - 2. मानपत्र
 - 3. उपहार
 - 4. एक लाख रुपए

Question ID : 26433079239

Status : Answered

Chosen Option : 1

Q.13 'रामू बेहद गरीब है।'
उपरोक्त वाक्य में रेखांकित शब्द के उपयुक्त पर्यायवाची शब्द का चयन कीजिए।

- Ans
- 1. निबद्ध
 - 2. निर्बाध
 - 3. निस्सार
 - 4. निर्धन

Question ID : 26433079719

Status : Answered

Chosen Option : 4

Q.14 'मुसीबत में और मुसीबत आना' किस मुहावरे का अर्थ है?

- Ans
- 1. ओछे की प्रीति बालू की भीति
 - 2. एक अनार सौ बीमार
 - 3. ककड़ी चोर और फांसी की सजा
 - 4. कंगाली में आटा गीला

Question ID : 26433062607

Status : Answered

Chosen Option : 4

Q.15 'जो अपना भोजन स्वयं पकाता है' वाक्यांश के लिए उचित शब्द क्या होगा?

- Ans
- 1. स्वयंपाठी
 - 2. स्वयंभू
 - 3. स्वयंसेवक
 - 4. स्वयंपाकी

Question ID : 26433067065

Status : Answered

Chosen Option : 4

Comprehension:

निम्नलिखित गद्यांश में कुछ शब्दों को हटा दिया गया है। दिए गए विकल्पों की सहायता से रिक्त स्थानों की पूर्ति कीजिए। प्रत्येक संख्या के लिए सबसे उपयुक्त विकल्प का चयन करें।

सुख 1. _____ से उत्पन्न होता है। सुख जड़ता से भी उत्पन्न होता है। पुराने जमाने के लोग सुखी इसलिए थे, क्योंकि 2. _____ में उन्हें विश्वास था। उस जमाने के नमूने आज भी हैं, मगर वे 3. _____ में कम मिलते हैं। उनका जमघट गाँवों, कस्बों या छोटे-छोटे नगरों में है। इनके बहुत अधिक असंतुष्ट न होने का कारण यह है कि जो 4. _____ उनके बस में नहीं है, उन्हें वे अदृश्य की इच्छा पर छोड़कर निश्चित हो जाते हैं। इसी प्रकार सुखी वे लोग भी होते हैं, जो सच्चे अर्थों में जड़तावादी हैं, क्योंकि उनकी 5. _____ पर कठखोदी चिड़िया चोंच नहीं मारा करती, किंतु जो न जड़ता को स्वीकार करता है, न ईश्वर के अस्तित्व को तथा जो पूरे मन से न तो जड़ता का त्याग करता है और न ईश्वर के अस्तित्व को।

SubQuestion No : 16

Q.16 रिक्त स्थान 1 की पूर्ति के लिए सबसे उपयुक्त विकल्प का चयन करें।

- Ans
- 1. विश्वास
 - 2. शंका
 - 3. अविश्वास
 - 4. संदेह

Question ID : 264330110891

Status : Answered

Chosen Option : 1

Comprehension:

निम्नलिखित गद्यांश में कुछ शब्दों को हटा दिया गया है। दिए गए विकल्पों की सहायता से रिक्त स्थानों की पूर्ति कीजिए। प्रत्येक संख्या के लिए सबसे उपयुक्त विकल्प का चयन करें।

सुख 1. _____ से उत्पन्न होता है। सुख जड़ता से भी उत्पन्न होता है। पुराने जमाने के लोग सुखी इसलिए थे, क्योंकि 2. _____ में उन्हें विश्वास था। उस जमाने के नमूने आज भी हैं, मगर वे 3. _____ में कम मिलते हैं। उनका जमघट गाँवों, कस्बों या छोटे-छोटे नगरों में है। इनके बहुत अधिक असंतुष्ट न होने का कारण यह है कि जो 4. _____ उनके बस में नहीं है, उन्हें वे अदृश्य की इच्छा पर छोड़कर निश्चित हो जाते हैं। इसी प्रकार सुखी वे लोग भी होते हैं, जो सच्चे अर्थों में जड़तावादी हैं, क्योंकि उनकी 5. _____ पर कठखोदी चिड़िया चोंच नहीं मारा करती, किंतु जो न जड़ता को स्वीकार करता है, न ईश्वर के अस्तित्व को तथा जो पूरे मन से न तो जड़ता का त्याग करता है और न ईश्वर के अस्तित्व को।

SubQuestion No : 17

Q.17 रिक्त स्थान 2 की पूर्ति के लिए सबसे उपयुक्त विकल्प का चयन करें।

- Ans
- 1. राज सत्ता
 - 2. असुर की सत्ता
 - 3. ईश्वर की सत्ता
 - 4. मानव की सत्ता

Question ID : 264330110892

Status : Answered

Chosen Option : 3

Comprehension:

निम्नलिखित गद्यांश में कुछ शब्दों को हटा दिया गया है। दिए गए विकल्पों की सहायता से रिक्त स्थानों की पूर्ति कीजिए। प्रत्येक संख्या के लिए सबसे उपयुक्त विकल्प का चयन करें।

सुख 1. _____ से उत्पन्न होता है। सुख जड़ता से भी उत्पन्न होता है। पुराने जमाने के लोग सुखी इसलिए थे, क्योंकि 2. _____ में उन्हें विश्वास था। उस जमाने के नमूने आज भी हैं, मगर वे 3. _____ में कम मिलते हैं। उनका जमघट गाँवों, कस्बों या छोटे-छोटे नगरों में है। इनके बहुत अधिक असंतुष्ट न होने का कारण यह है कि जो 4. _____ उनके बस में नहीं है, उन्हें वे अदृश्य की इच्छा पर छोड़कर निश्चित हो जाते हैं। इसी प्रकार सुखी वे लोग भी होते हैं, जो सच्चे अर्थों में जड़तावादी हैं, क्योंकि उनकी 5. _____ पर कठखोदी चिड़िया चोंच नहीं मारा करती, किंतु जो न जड़ता को स्वीकार करता है, न ईश्वर के अस्तित्व को तथा जो पूरे मन से न तो जड़ता का त्याग करता है और न ईश्वर के अस्तित्व को।

SubQuestion No : 18

Q.18 रिक्त स्थान 3 की पूर्ति के लिए सबसे उपयुक्त विकल्प का चयन करें।

- Ans 1. महानगरों
 2. गाँवों
 3. गलियों
 4. नुक्कड़ों

Question ID : 264330110893

Status : Answered

Chosen Option : 1

Comprehension:

निम्नलिखित गद्यांश में कुछ शब्दों को हटा दिया गया है। दिए गए विकल्पों की सहायता से रिक्त स्थानों की पूर्ति कीजिए। प्रत्येक संख्या के लिए सबसे उपयुक्त विकल्प का चयन करें।

सुख 1. _____ से उत्पन्न होता है। सुख जड़ता से भी उत्पन्न होता है। पुराने जमाने के लोग सुखी इसलिए थे, क्योंकि 2. _____ में उन्हें विश्वास था। उस जमाने के नमूने आज भी हैं, मगर वे 3. _____ में कम मिलते हैं। उनका जमघट गाँवों, कस्बों या छोटे-छोटे नगरों में है। इनके बहुत अधिक असंतुष्ट न होने का कारण यह है कि जो 4. _____ उनके बस में नहीं है, उन्हें वे अदृश्य की इच्छा पर छोड़कर निश्चित हो जाते हैं। इसी प्रकार सुखी वे लोग भी होते हैं, जो सच्चे अर्थों में जड़तावादी हैं, क्योंकि उनकी 5. _____ पर कठखोदी चिड़िया चोंच नहीं मारा करती, किंतु जो न जड़ता को स्वीकार करता है, न ईश्वर के अस्तित्व को तथा जो पूरे मन से न तो जड़ता का त्याग करता है और न ईश्वर के अस्तित्व को।

SubQuestion No : 19

Q.19 रिक्त स्थान 4 की पूर्ति के लिए सबसे उपयुक्त विकल्प का चयन करें।

- Ans 1. रचना
 2. चीज़
 3. सूखा
 4. कुसुम

Question ID : 264330110894

Status : Answered

Chosen Option : 2

Comprehension:

निम्नलिखित गद्यांश में कुछ शब्दों को हटा दिया गया है। दिए गए विकल्पों की सहायता से रिक्त स्थानों की पूर्ति कीजिए। प्रत्येक संख्या के लिए सबसे उपयुक्त विकल्प का चयन करें।

सुख 1. _____ से उत्पन्न होता है। सुख जड़ता से भी उत्पन्न होता है। पुराने जमाने के लोग सुखी इसलिए थे, क्योंकि 2. _____ में उन्हें विश्वास था। उस जमाने के नमूने आज भी हैं, मगर वे 3. _____ में कम मिलते हैं। उनका जमघट गाँवों, कस्बों या छोटे-छोटे नगरों में है। इनके बहुत अधिक असंतुष्ट न होने का कारण यह है कि जो 4. _____ उनके बस में नहीं है, उन्हें वे अदृश्य की इच्छा पर छोड़कर निश्चित हो जाते हैं। इसी प्रकार सुखी वे लोग भी होते हैं, जो सच्चे अर्थों में जड़तावादी हैं, क्योंकि उनकी 5. _____ पर कठखोदी चिड़िया चोंच नहीं मारा करती, किंतु जो न जड़ता को स्वीकार करता है, न ईश्वर के अस्तित्व को तथा जो पूरे मन से न तो जड़ता का त्याग करता है और न ईश्वर के अस्तित्व को।

SubQuestion No : 20

Q.20 रिक्त स्थान 5 की पूर्ति के लिए सबसे उपयुक्त विकल्प का चयन करें।

Ans 1. हाथ

2. आत्मा

3. बालों

4. आँखें

Question ID : 264330110895

Status : Answered

Chosen Option : 2

KD Job Update

Constable GD in CAPFs SSF Rifleman GD in Assam Rifles and Sepoy in NCB Examination 2022

Roll Number	KD Job Updates
Candidate Name	KD Job Updates
Venue Name	Bhartiya Institute of Engineering and Technology
Exam Date	24/01/2023
Exam Time	9:00 AM - 10:00 AM
Subject	Constable GD Examination 2022

Section : Part-A-General Intelligence and Reasoning

Q.1 एक निश्चित कूट भाषा में, 'OUTGROW' को '56GRPX' के रूप में लिखा जाता है और 'THINNER' को '37NNFS' के रूप में लिखा जाता है। उसी भाषा में 'THOUGHT' को कैसे लिखा जाएगा?

- Ans
- 1. 33UGIU
 - 2. 43UGHT
 - 3. 43UGIU
 - 4. 33UGHT

Question ID : 26433069645

Status : Answered

Chosen Option : 3

Q.2 यदि श्रृंखला जारी रखनी है तो कौन-सी आकृति प्रश्न चिह्न (?) के स्थान पर

आएगी?

P	A	6	=	
A ↑ C ∇	6 P =	C ∇	A ↑ 6	?
6 ∇ =	= C ↑	↑ A P	P ∇ C	

Ans

✗ 1.

∇		
6 = C		
A ↑ P		

✗ 2.

∇		
P = A		
C ↑ 6		

✗ 3.

↑		
6 ∇ C		
A = P		

✓ 4.

↑		
P ∇ A		
C = 6		

KD Job Updates

Question ID : 26433076631

Status : Not Attempted and Marked For Review

Chosen Option : --

Q.3 उस विकल्प का चयन करें जो तीसरे शब्द से उसी प्रकार संबंधित है जिस प्रकार दूसरा शब्द पहले शब्द से संबंधित है।
(शब्दों को अर्थपूर्ण अंग्रेजी/हिन्दी शब्दों के रूप में माना जाना चाहिए और इन्हें शब्द में अक्षरों की संख्या/ व्यंजनों की संख्या/स्वरों की संख्या के आधार पर एक-दूसरे से संबद्ध नहीं किया जाना चाहिए।)
रुपया : भारत :: डॉलर : ?

- Ans
- 1. इंग्लैंड
 - 2. यूरोप
 - 3. संयुक्त अरब अमीरात
 - 4. संयुक्त राज्य अमेरिका

Question ID : 26433082938

Status : Answered

Chosen Option : 4

KD Job Updates

Q.4 दर्पण को दाईं ओर रखे जाने पर, निम्नलिखित में से कौन-सी आकृति दी गई प्रश्न आकृति


का सटीक दर्पण प्रतिबिम्ब होगी?

प्रश्न आकृति:



Ans

✗ 1.



✗ 2.



✗ 3.



✓ 4.



Question ID : 26433087088

Status : Answered

Chosen Option : 4

Q.5 दिए गए विकल्पों में से उस अक्षर-समूह का चयन कीजिए जो निम्न श्रृंखला में प्रश्न-चिह्न (?) के स्थान पर आ सकता है।
JRY, GOV, DLS, AIP, ?

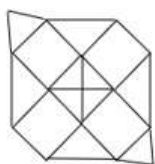
- Ans
- 1. YEN
 - 2. YEF
 - 3. XEN
 - 4. XFM

Question ID : 26433079035

Status : Answered

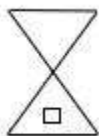
Chosen Option : 4

Q.6 उस विकल्प का चयन कीजिए, जो दी गई आकृति में अंतर्निहित है (घूमने की अनुमति नहीं है)।




Ans

1.




2.



3.



4.



Question ID : 26433082897

Status : Answered

Chosen Option : 2

Q.7 उस विकल्प का चयन करें, जो पाँचवीं संख्या से उसी प्रकार संबंधित है, जिस प्रकार दूसरी संख्या, पहली संख्या से संबंधित है और चौथी संख्या, तीसरी संख्या से संबंधित है।
14 : 4 :: 18 : 6 :: 22 : ?

- Ans
- 1. 9
 - 2. 10
 - 3. 7
 - 4. 8

Question ID : 26433069426

Status : Answered

Chosen Option : 4

Q.8 6 व्यक्ति P, Q, R, S, T, और U एक दीवार पर उत्तर की ओर मुख करके बैठे हैं। P, Q के बाईं ओर ठीक बगल में बैठा है। R, Q के दाईं ओर ठीक बगल में बैठा है। केवल S, R और T के बीच में बैठा है। U, T के दाईं ओर ठीक बगल में बैठा है। Q और S के बीच में कौन बैठा है?

- Ans
- 1. U
 - 2. T
 - 3. R
 - 4. Q

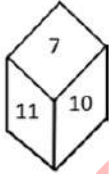
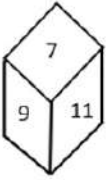
Question ID : 26433074628

Status : Answered

Chosen Option : 3

Q.9 एक ही पासे की दो अलग-अलग स्थितियों को दर्शाया गया है जिस पर 7 से 12 तक की संख्या बनी है। '9'

दर्शाने वाले फलक के विपरीत फलक पर स्थित संख्या ज्ञात कीजिए।



- Ans
- 1. 10
 - 2. 8
 - 3. 12
 - 4. 11

Question ID : 26433085520

Status : Answered

Chosen Option : 1

Q.10 यदि '+' का अर्थ है '-', '-' का अर्थ है '=', '=' का अर्थ है 'x', और 'x' का है अर्थ '+', तो निम्नलिखित में से कौन-सा अभिव्यक्ति का मान होगा?
 $117 - 13 \div 6 + 24 \times 26$

- Ans
- 1. 36
 - 2. 46
 - 3. 56
 - 4. 66

Question ID : 264330114191
Status : Answered
Chosen Option : 3

Q.11 किसी निश्चित कोड भाषा में ACCOUNT को 'EBGNVMX' के रूप में लिखा गया है और MANOR को 'QZRNW' के रूप में लिखा गया है। उसी कोड भाषा में PATTERN को किस प्रकार लिखा जाएगा?

- Ans
- 1. TZXSQR
 - 2. TZXSJQR
 - 3. TBXSJQR
 - 4. TBYTIQS

Question ID : 26433076686
Status : Answered
Chosen Option : 1

Q.12 सात व्यक्ति F, H, K, G, J, D और L एक सीधी पंक्ति में उत्तर की ओर मुख करके बैठे हैं। G के दाईं ओर केवल दो व्यक्ति बैठे हैं। J के बाईं ओर केवल दो व्यक्ति बैठे हैं। H, G और J के बीच बैठा है। K, J और L के बीच बैठा है। F, G और D के बीच बैठा है। पंक्ति के दाएँ छोर पर कौन बैठा है?

- Ans
- 1. D
 - 2. F
 - 3. L
 - 4. H

Question ID : 26433082637
Status : Answered
Chosen Option : 1

Q.13 किस विकल्प में निम्नलिखित शब्दों का वह क्रम दिया गया है, जिस क्रम में वे अंग्रेजी शब्दकोश में आते हैं।

1. Elegant
2. Emerald
3. Elaborate
4. Elasticity
5. Elephant

- Ans
- 1. 3,4,1,5,2
 - 2. 3,4,5,1,2
 - 3. 4,3,2,1,5
 - 4. 4,3,1,5,2

Question ID : 26433069279
Status : Answered
Chosen Option : 1

Q.14 निम्नलिखित में से कौन-सी संख्या दी गई श्रेणी में प्रश्न-चिह्न (?) के स्थान पर आएगी?
23629, 23593, 23568, ?, 23543, 23539

- Ans
- 1. 23563
 - 2. 23548
 - 3. 23552
 - 4. 23551

Question ID : 26433069084

Status : Answered

Chosen Option : 3

Q.15 निम्नलिखित में से कौन-सा अक्षर नीचे दी गई अक्षर श्रृंखला में प्रश्न-चिह्न (?) के स्थान पर आकर श्रृंखला को पूर्ण करेगा?
F, D, J, B, N, Z, ?

- Ans
- 1. P
 - 2. Q
 - 3. S
 - 4. R

Question ID : 26433067294

Status : Not Attempted and Marked For Review

Chosen Option : --

Q.16 तीन कथन दिए गए हैं, जिनके बाद तीन निष्कर्ष I, II और III दिए गए हैं। कथनों को सत्य मानते हुए, भले ही वे सामान्य रूप से ज्ञात तथ्यों से भिन्न प्रतीत होते हों, निर्धारित करें कि कौन-सा/से निष्कर्ष कथनों का तार्किक रूप से अनुसरण करता है/करते हैं।

कथन:

कोई चाभी फोन नहीं हैं।

सभी चाभियां क्लिप हैं।

कुछ चाभियां टेबल हैं।

निष्कर्ष:

I. कुछ क्लिप फोन नहीं हैं।

II. कुछ टेबल फोन नहीं हैं।

III. कुछ क्लिप टेबल हैं।

- Ans
- 1. सभी निष्कर्ष अनुसरण करते हैं
 - 2. केवल निष्कर्ष I और III अनुसरण करते हैं
 - 3. केवल निष्कर्ष II और III अनुसरण करते हैं
 - 4. केवल निष्कर्ष III अनुसरण करता है

Question ID : 26433090987

Status : Answered

Chosen Option : 4

Q.17 निम्नलिखित में से कौन सा विकल्प दी गई श्रृंखला में प्रश्न चिह्न (?) को प्रतिस्थापित करेगा?
57, 63, 71, ?, 93, 107

- Ans 1. 83
 2. 77
 3. 81
 4. 87

Question ID : 26433089436
Status : Answered
Chosen Option : 3

Q.18 'C / D' का अर्थ है 'C, D की बहन है'।
'C < D' का अर्थ है 'C, D का पति है'।
'C @ D' का अर्थ है 'C, D का पिता है'।
'C + D' का अर्थ है 'C, D का बेटा है'।
यदि $P @ Q + R / S < T$ है, तो T, Q से किस प्रकार संबंधित है?

- Ans 1. मौसा
 2. नानी
 3. मामी
 4. मौसी

Question ID : 26433086997
Status : Answered
Chosen Option : 1

Q.19 उस विकल्प का चयन कीजिए जो तीसरे शब्द से उसी प्रकार संबंधित है जिस प्रकार दूसरा शब्द पहले शब्द से संबंधित है। (शब्दों को अर्थपूर्ण शब्दों के रूप में मानना है और उन्हें शब्द में अक्षरों/व्यंजनों/स्वरों की संख्या के आधार पर एक-दूसरे से संबंधित नहीं करना है।)
कुत्ता : चार :: चिड़िया : ?

- Ans 1. छः
 2. दो
 3. सात
 4. पाँच

Question ID : 26433067378
Status : Answered
Chosen Option : 2

Q.20 नीचे दिए गए समीकरण को गणितीय रूप से सही बनाने के लिए किन दो चिन्हों को परस्पर बदलना चाहिए?
 $132 \div 6 - 24 \times 5 + 9 = 43$

- Ans 1. + और ÷
 2. + और ×
 3. ÷ और ×
 4. - और +

Question ID : 264330117554
Status : Not Attempted and Marked For Review
Chosen Option : --

Q.1 कुंचु कुरूप किस नृत्य शैली के लिए व्यापक रूप से जाने जाते हैं?

- Ans 1. कथकली
 2. सत्रीया
 3. कुचिपुड़ी
 4. मोहिनीअट्टम

Question ID : 264330115884
Status : Not Answered
Chosen Option : --

Q.2 गोल्डन क्वॉड्रिलेट्रल सुपर हाईवे दिल्ली, _____, चेन्नई और मुंबई को जोड़ता है।

- Ans 1. झांसी
 2. देहरादून
 3. नागपुर
 4. कोलकाता

Question ID : 264330115588
Status : Not Answered
Chosen Option : --

Q.3 राधा रेड्डी और राजा रेड्डी किस नृत्य के प्रसिद्ध प्रतिपादक हैं?

- Ans 1. कुचिपुड़ी
 2. कथकली
 3. भरतनाट्यम
 4. मोहिनीअट्टम

Question ID : 26433066534
Status : Not Answered
Chosen Option : --

Q.4 निम्नलिखित में से कौन-सा हरित क्रांति का एक लाभ है?

- Ans 1. खाद्यान्न में आत्मनिर्भरता
 2. सरकार के खाद्यान्न भंडार में कमी
 3. खाद्यान्नों के आयात में वृद्धि
 4. खाद्यान्न के मूल्य में वृद्धि

Question ID : 26433054627
Status : Answered
Chosen Option : 1

Q.5 तीसरी पंचवर्षीय योजना का उद्देश्य भारत को _____ बनाना था।

Ans 1. आत्मनिर्भर

2. एक सूचना तकनीकी राष्ट्र

3. आश्रित

4. न्यून

Question ID : 264330115376

Status : Not Answered

Chosen Option : --

Q.6 छठे अंतर्राष्ट्रीय योग दिवस-2020 की थीम क्या थी?

Ans 1. बी विद योगा, बी एट होम!

2. डू योग एट होम

3. योगा एट होम एंड योगा विद फैमिली

4. हर घर योग

Question ID : 26433086725

Status : Answered

Chosen Option : 3

Q.7 गंगोत्री हिमनद किस राज्य में स्थित है?

Ans 1. अरुणाचल प्रदेश

2. उत्तराखंड

3. सिक्किम

4. हिमाचल प्रदेश

Question ID : 264330116012

Status : Answered

Chosen Option : 2

Q.8 मेगस्थनीज़ के अनुसार पाटलिपुत्र में कुल कितने द्वार थे ?

Ans 1. 64

2. 125

3. 261

4. 366

Question ID : 264330115448

Status : Not Answered

Chosen Option : --

Q.9 भारतीय संविधान का कौन सा अनुच्छेद उपाधियों का अंत से संबंधित है?

- Ans
- 1. अनुच्छेद 16
 - 2. अनुच्छेद 19
 - 3. अनुच्छेद 17
 - 4. अनुच्छेद 18

Question ID : 264330115642

Status : Not Answered

Chosen Option : --

Q.10 भूमचू त्योहार मुख्य रूप से भारत के निम्नलिखित में से किस राज्य में मनाया जाता है?

- Ans
- 1. महाराष्ट्र
 - 2. सिक्किम
 - 3. आंध्र प्रदेश
 - 4. हिमाचल प्रदेश

Question ID : 26433094881

Status : Answered

Chosen Option : 2

Q.11 राष्ट्रीय आय की गणना की _____ विधि में, हम उत्पादित वस्तुओं और सेवाओं के कुल वार्षिक मूल्य की गणना करते हैं (यदि एक वर्ष समय की इकाई है)।

- Ans
- 1. खरीद
 - 2. ऋण
 - 3. उत्पाद
 - 4. कर

Question ID : 264330115341

Status : Answered

Chosen Option : 3

Q.12 निम्नलिखित में से किस खिलाड़ी को प्रथम राजीव गांधी खेल रत्न पुरस्कार दिया गया था?

- Ans
- 1. सचिन तेंदुलकर
 - 2. साइना नेहवाल
 - 3. मेजर ध्यानचंद
 - 4. विश्वनाथन आनंद

Question ID : 264330116301

Status : Answered

Chosen Option : 3

Q.13 निम्नलिखित में से किस प्रकार की बेरोजगारी ग्रामीण क्षेत्रों में होती है?

- I. मौसमी बेरोजगारी
II. प्रच्छन्न बेरोजगारी

- Ans 1. केवल I
 2. ना तो I ना तो II
 3. I तथा II दोनों
 4. केवल II

Question ID : 264330116082

Status : Answered

Chosen Option : 3

Q.14 कौन-सा अनुच्छेद राष्ट्रपति को किसी राज्य के राज्यपाल को एक निकटवर्ती संघ राज्यक्षेत्र के प्रशासक के रूप में नियुक्त करने के लिए अधिकृत करता है?

- Ans 1. अनुच्छेद 239(2)
 2. अनुच्छेद 231(2)
 3. अनुच्छेद 238(2)
 4. अनुच्छेद 237(2)

Question ID : 26433089973

Status : Not Answered

Chosen Option : --

Q.15 निम्नलिखित में से किसने वन्दे मातरम गीत लिखा था?

- Ans 1. लाल माखन सिंह
 2. अनिल चंद्र बनर्जी
 3. बंकिमचन्द्र चट्टोपाध्याय
 4. वीर सिंह सलगांवकर

Question ID : 26433091465

Status : Answered

Chosen Option : 3

Q.16 वर्ष 2020 में अनुसूचित जाति और अनुसूचित जनजाति के आरक्षण को समाप्त करने की समय सीमा को और _____ वर्षों के लिए बढ़ा दिया गया था।

- Ans 1. 20
 2. 5
 3. 15
 4. 10

Question ID : 264330116230

Status : Answered

Chosen Option : 4

Q.17 पारिस्थितिक पिरामिड का आधार सामान्यतः चौड़ा होता है और यह _____ की ओर संकीर्ण होता है।

- Ans
- 1. सिरे
 - 2. शीर्ष
 - 3. तल
 - 4. केंद्र

Question ID : 264330115260
Status : Not Answered
Chosen Option : --

Q.18 जुलाई 2022 में, केंद्रीय गृह मंत्रालय ने दिल्ली पुलिस का नया आयुक्त किसे नियुक्त किया?

- Ans
- 1. संजय अरोड़ा
 - 2. संजीव बख्शी
 - 3. मोहन मालवीय
 - 4. सुमीत बंसल

Question ID : 264330115044
Status : Answered
Chosen Option : 1

Q.19 किस राजनीतिक नेता ने मई 2022 में उत्तराखंड में चंपावत निर्वाचन क्षेत्र से उपचुनाव जीता?

- Ans
- 1. पीयूष गोयल
 - 2. जगत प्रकाश नड्डा
 - 3. पुष्कर सिंह धामी
 - 4. नरेन्द्र मोदी

Question ID : 264330114910
Status : Not Answered
Chosen Option : --

Q.20 निम्नलिखित में से क्या सौर सेल उपयोग करने का एक प्रमुख लाभ है?

- Ans
- 1. इसके बाहरी क्षेत्र में धातु होती है।
 - 2. इसमें गतिमान पुर्जे नहीं होते हैं।
 - 3. इसमें गतिमान पुर्जे होते हैं।
 - 4. यह दोलन गति दर्शाता है।

Question ID : 26433087840
Status : Not Attempted and Marked For Review
Chosen Option : --

Q.1 एक कार की कीमत Rs.2,50,000 है। पहले वर्ष में, इसके मूल्य में 10% का हास होता है, और दूसरे वर्ष में, इसमें 15% का हास होता है। 2 वर्ष के बाद कार का मूल्य क्या होगा?

- Ans
- 1. Rs.1,85,670
 - 2. Rs.1,91,250
 - 3. Rs.1,75,000
 - 4. Rs.1,90,300

Question ID : 26433065289

Status : Answered

Chosen Option : 2

Q.2 एक व्यक्ति अपनी मासिक आय का 25% बचत करता है। उसकी आय में 20% की वृद्धि के कारण, उसका व्यय भी 20% बढ़ जाता है। अब वह हर महीने Rs.1,500 की बचत कर पाता है। उसकी मूल मासिक आय ज्ञात कीजिए।

- Ans
- 1. Rs.7,500
 - 2. Rs.5,000
 - 3. Rs.6,500
 - 4. Rs.5,500

Question ID : 26433075465

Status : Not Answered

Chosen Option : --

Q.3 एक कंपनी में 100 कर्मचारियों का औसत भार 62 kg है और शेष 25 कर्मचारियों का औसत भार 52 kg है। उस कंपनी के सभी कर्मचारियों का औसत भार ज्ञात कीजिए।

- Ans
- 1. 57 kg
 - 2. 60 kg
 - 3. 58 kg
 - 4. 55 kg

Question ID : 26433074913

Status : Answered

Chosen Option : 2

Q.4 राकेश Rs.2,530 प्रत्येक पर दो घड़ियाँ बेचता है, उसे एक पर 15% का लाभ और दूसरी पर 15% की हानि होती। पूरे लेन-देन में उसका अनुमानित लाभ या हानि प्रतिशत ज्ञात कीजिए।

- Ans
- 1. लाभ, 2.25%
 - 2. लाभ, 3.30%
 - 3. हानि, 2.25%
 - 4. हानि, 3.30%

Question ID : 26433075233

Status : Answered

Chosen Option : 2

Q.5 किसी वस्तु के मूल्य में 10% की कमी की जाती है लेकिन वस्तु की दैनिक बिक्री में 20% की वृद्धि होती है। दैनिक बिक्री प्राप्तियों पर शुद्ध प्रभाव _____ है।

- Ans
- 1. 5% की वृद्धि
 - 2. 8% की वृद्धि
 - 3. 12% की वृद्धि
 - 4. 10% की वृद्धि

Question ID : 26433080103

Status : Answered

Chosen Option : 2

Q.6 राम और लक्ष्मण एक कार्य को क्रमशः 15 और 20 दिनों में पूरा कर सकते हैं। यदि भरत, राम और लक्ष्मण साथ मिलकर कार्य करते हैं, तो वे कार्य को 5 दिन में पूरा कर सकते हैं। भरत को कार्य समाप्त करने में कितना समय लगेगा?

- Ans
- 1. 20 दिन
 - 2. 12 दिन
 - 3. 10 दिन
 - 4. 15 दिन

Question ID : 26433075893

Status : Answered

Chosen Option : 4

Q.7 एक बाइक सवार 100 km की दूरी 75 km/h की चाल से तय करता है। औसत चाल 90 km/h प्राप्त करने के लिए बाइक सवार को अगले एक घंटे तक किस चाल से चलना होगा?

- Ans
- 1. 110 km/h
 - 2. 90 km/h
 - 3. 80 km/h
 - 4. 100 km/h

Question ID : 26433091901

Status : Answered

Chosen Option : 3

Q.8 एक त्रिभुज में यदि सबसे लंबी भुजा की लंबाई 15 cm और दूसरी भुजा की लंबाई 12 cm है और इसका परिमाप 34 cm है, तो त्रिभुज का क्षेत्रफल cm^2 में _____ है।

- Ans
- 1. $5\sqrt{15}$
 - 2. $5\sqrt{17}$
 - 3. $10\sqrt{17}$
 - 4. $10\sqrt{15}$

Question ID : 26433079971

Status : Not Answered

Chosen Option : --

Q.9 जैक एक कार्य को 30 दिनों में कर सकता है। रयान यह कार्य 14 दिनों में कर सकता है। जैक ने अकेले ही कार्य शुरू किया। कितने दिनों के बाद रयान को उसके साथ जुड़ना चाहिए, ताकि कार्य 15 दिनों में समाप्त हो जाए?

- Ans
- 1. 5 दिन
 - 2. 8 दिन
 - 3. 7 दिन
 - 4. 4 दिन

Question ID : 264330116914

Status : Answered

Chosen Option : 1

Q.10 ** को प्रतिस्थापित करने के लिए गणितीय चिह्नों के सही संयोजन और क्रम का चयन कीजिए ताकि समीकरण संतुलित हो जाए:
 $172 * 86 * 14 * 2 = 30$

- Ans
- 1. ÷, +, ×
 - 2. ÷, -, ×
 - 3. ÷, +, ÷
 - 4. ÷, -, +

Question ID : 26433076408

Status : Answered

Chosen Option : 1

Q.11 16, 26 और 32 का चतुर्थानुपाती है:

- Ans
- 1. 23
 - 2. 22
 - 3. 51
 - 4. 52

Question ID : 26433075388

Status : Answered

Chosen Option : 4

Q.12 एक कॉलेज की कैटीन में 96 छात्रों को 5 दिन परोसने के लिए खाद्य सामग्री इकट्ठी की गई। लेकिन नए दाखिले होने से 64 और छात्र जुड़ गए। अब, खाद्य सामग्री कितने दिनों तक चलेगी?

- Ans
- 1. 4 दिन
 - 2. 5 दिन
 - 3. 3 दिन
 - 4. 2 दिन

Question ID : 26433073111

Status : Answered

Chosen Option : 3

Q.13 कितने वर्षों में ₹4,000 की धनराशि ब्याज के वार्षिक रूप से चक्रवृद्धि किए जाने पर 10 प्रतिशत वार्षिक चक्रवृद्धि ब्याज दर पर ₹5,324 हो जाएगी?

- Ans
- 1. 2
 - 2. 2.5
 - 3. 4
 - 4. 3

Question ID : 26433079875

Status : Answered

Chosen Option : 2

Q.14 एक अर्धगोले का संपूर्ण पृष्ठीय क्षेत्रफल 4158 cm^2 है। अर्धगोले की त्रिज्या ज्ञात कीजिए। ($\pi = \frac{22}{7}$ का उपयोग कीजिए)

- Ans
- 1. 21 cm
 - 2. 7 cm
 - 3. 42 cm
 - 4. 14 cm

Question ID : 26433087408

Status : Not Answered

Chosen Option : --

Q.15 एक डीलर किसी वस्तु पर 25% की छूट देता है। नगद भुगतान पर, वह 15% की एक और छूट देता है। एक ग्राहक ने ₹255 नकद भुगतान किया। वस्तु का अंकित मूल्य ज्ञात कीजिए।

- Ans
- 1. ₹400
 - 2. ₹300
 - 3. ₹600
 - 4. ₹500

Question ID : 26433074459

Status : Not Answered

Chosen Option : --

Q.16

निम्नलिखित को सरल कीजिए।

$$\frac{1}{8} - \left\{ \frac{1}{5} + (1 - 0.6) \right\}$$

Ans

✗ 1. $\frac{13}{40}$

✓ 2. $\frac{-19}{40}$

✗ 3. $\frac{1}{20}$

✗ 4. $\frac{-3}{20}$

Question ID : 26433082606

Status : Answered

Chosen Option : 2

Q.17 190 m और 195 m की लंबाई वाली दो ट्रेनें A और B समानांतर पटरियों पर एक दूसरे की ओर क्रमशः 50 km/h और 76 km/h की चाल से चल रही हैं। वे एक दूसरे को कितने समय में पार करेंगी?

Ans ✓ 1. 11 सेकंड

✗ 2. 12 सेकंड

✗ 3. 13 सेकंड

✗ 4. 14 सेकंड

Question ID : 26433075738

Status : Answered

Chosen Option : 2

Q.18 यदि 90 मीटर लंबी ट्रेन एक 210 m लंबे प्लेटफॉर्म को 20 सेकंड में पार करती है, तो ट्रेन की चाल क्या है?

Ans ✓ 1. 54 km/h

✗ 2. 56 km/h

✗ 3. 52 km/h

✗ 4. 58 km/h

Question ID : 26433075692

Status : Not Attempted and Marked For Review

Chosen Option : --

Q.19 अंकित मूल्य पर 10% की छूट देने के बाद, एक मोबाइल फ़ोन का मूल्य Rs.20,250 है। यदि कोई छूट नहीं दी जाती है, तो दुकानदार को 20% लाभ होता है। मोबाइल फ़ोन का क्रय मूल्य _____ है।

- Ans
- 1. Rs.19,250
 - 2. Rs.18,750
 - 3. Rs.18,000
 - 4. Rs.19,000

Question ID : 26433074959

Status : Not Answered

Chosen Option : --

Q.20 अरविंद ने क्रमिक छूट योजना के तहत एक वस्तु खरीदी, जिसमें क्रमिक रूप से 20% और 25% की छूट दी गई थी, और बिल के रूप में ₹6,000 का भुगतान किया। वस्तु की एमआरपी कितनी थी?

- Ans
- 1. ₹10,000
 - 2. ₹9,420
 - 3. ₹8,020
 - 4. ₹10,450

Question ID : 26433080025

Status : Answered

Chosen Option : 2

Section : Part-D-English

Q.1 Select the most appropriate option to fill in the blanks in the given sentence.

The vice chancellor is supposed to _____ the gathering tonight, and Seema was late as she could not find the _____ of Geeta.

- Ans
- 1. address
 - 2. speak
 - 3. home
 - 4. convey

Question ID : 26433084769

Status : Not Answered

Chosen Option : --

Q.2 Select the most appropriate option to substitute the underlined segment in the given sentence.

A thin layer of substance called soil maintains the level of the Earth and is where plant roots are found.

- Ans
- 1. covers the surface
 - 2. designs the cultivation
 - 3. removes the texture
 - 4. controls the growth

Question ID : 26433089828
Status : Not Answered
Chosen Option : --

Q.3 The sentence given below has one misspelt word. Spot the INCORRECTLY spelt word and select its correct spelling.

You need to give tremendous input for excellence.

- Ans
- 1. Trimendous
 - 2. Tremindous
 - 3. Tremandous
 - 4. Tremendous

Question ID : 26433073563
Status : Not Answered
Chosen Option : --

Q.4 Select the most appropriate synonym of the given word.

Indebted

- Ans
- 1. Envious
 - 2. Thankful
 - 3. Careless
 - 4. Doubtful

Question ID : 26433073461
Status : Not Answered
Chosen Option : --

Q.5 The sentence given below has one misspelt word. Spot the INCORRECTLY spelt word and select its correct spelling.

The number of bankruptcies was especially high last year.

- Ans
- 1. Bankrapcies
 - 2. Bankruptcies
 - 3. Bankerupcies
 - 4. Bankrupcies

Question ID : 26433073545
Status : Not Answered
Chosen Option : --

Q.6 Select the most appropriate ANTONYM of the given word.

Sustain

- Ans
- 1. Embrace
 - 2. Obstruct
 - 3. Rectify
 - 4. Continue

Question ID : 26433090794
Status : Not Answered
Chosen Option : --

Q.7 Select the most appropriate synonym of the underlined word.

He has a nasty habit of picking his nose.

- Ans
- 1. Cowardly
 - 2. Indolent
 - 3. Laudable
 - 4. Despicable

Question ID : 26433088449
Status : Not Answered
Chosen Option : --

Q.8 Select the most appropriate ANTONYM of the word given in brackets to fill in the blank.

We are (last) _____ in line.

- Ans
- 1. eventual
 - 2. further
 - 3. maimed
 - 4. foremost

Question ID : 26433090382
Status : Not Answered
Chosen Option : --

Q.9 Select the most appropriate ANTONYM of the given word.

Cramped

- Ans
- 1. Extensive
 - 2. Vicinity
 - 3. Remote
 - 4. Straight

Question ID : 26433072204
Status : Not Answered
Chosen Option : --

Q.10 Select the most appropriate option that can substitute the underlined segment in the given sentence.

His wife is aiding and abets him in his dishonest deeds.

- Ans
- 1. aiding and betting
 - 2. aiding and bets
 - 3. aids and betting
 - 4. aids and abets

Question ID : 26433071933
Status : Not Answered
Chosen Option : --

Q.11 Select the most appropriate option to fill in the blank.

Residents of the area are still trying to come to terms with the _____ of the disaster.

- Ans
- 1. heinousness
 - 2. enormity
 - 3. atrocity
 - 4. duress

Question ID : 26433073581
Status : Not Answered
Chosen Option : --

Q.12 Select the most appropriate option that can substitute the underlined segment in the given sentence. If there is no need to substitute it, select 'No substitution'.

I have to save this coupon in case I come back to the store tomorrow.

- Ans
- 1. in case I will come back to the store tomorrow
 - 2. No substitution
 - 3. if in case I come back to the store tomorrow
 - 4. in case I came back to the store tomorrow

Question ID : 264330101023
Status : Not Answered
Chosen Option : --

Q.13 Select the most appropriate synonym of the underlined word in the given sentence.

Prashant is obstinate by nature.

- Ans
- 1. flexible
 - 2. adamant
 - 3. generous
 - 4. pliable

Question ID : 26433092107
Status : Not Answered
Chosen Option : --

Q.14 Parts of the following sentence have been given as options. One of them may contain an error. Select the part that contains the error from the given options. If you don't find any error, mark 'No error' as your answer.

Her knowledge of English are very limited.

- Ans
- 1. Her
 - 2. No Error
 - 3. knowledge of English are
 - 4. very limited

Question ID : 2643308857
Status : Not Answered
Chosen Option : --

Q.15 Select the appropriate idiom that can replace the underlined phrase in the following sentence.

Geet talks incessantly about cycling in her town.

- Ans
- 1. gives a buzz
 - 2. makes a bee line
 - 3. put a bee on someone
 - 4. has a bee in her bonnet

Question ID : 2643307283
Status : Not Answered
Chosen Option : --

Comprehension:

In the following passage, some words have been deleted. Read the passage carefully and select the most appropriate option to fill in each blank.

I understood why these highly (1) _____ professionals remained in the closet. I was one of (2) _____. We could not deny our (3) _____ experiences and senses. Yet our training was in many ways diametrically (4) _____ to the information, experiences and beliefs we had accumulated. So we remained (5) _____.

SubQuestion No : 16

Q.16 Select the most appropriate option to fill in blank number 1.

- Ans
- 1. trained
 - 2. thought
 - 3. train
 - 4. studied

Question ID : 2643307078
Status : Not Answered
Chosen Option : --

Comprehension:

In the following passage, some words have been deleted. Read the passage carefully and select the most appropriate option to fill in each blank.

I understood why these highly (1) _____ professionals remained in the closet. I was one of (2) _____. We could not deny our (3) _____ experiences and senses. Yet our training was in many ways diametrically (4) _____ to the information, experiences and beliefs we had accumulated. So we remained (5) _____.

SubQuestion No : 17

Q.17 Select the most appropriate option to fill in blank number 2.

- Ans 1. then
 2. them
 3. these
 4. this

Question ID : 26433070779

Status : Not Answered

Chosen Option : --

Comprehension:

In the following passage, some words have been deleted. Read the passage carefully and select the most appropriate option to fill in each blank.

I understood why these highly (1) _____ professionals remained in the closet. I was one of (2) _____. We could not deny our (3) _____ experiences and senses. Yet our training was in many ways diametrically (4) _____ to the information, experiences and beliefs we had accumulated. So we remained (5) _____.

SubQuestion No : 18

Q.18 Select the most appropriate option to fill in blank number 3.

- Ans 1. his
 2. own
 3. theirs
 4. hers

Question ID : 26433070780

Status : Not Answered

Chosen Option : --

Comprehension:

In the following passage, some words have been deleted. Read the passage carefully and select the most appropriate option to fill in each blank.

I understood why these highly (1) _____ professionals remained in the closet. I was one of (2) _____. We could not deny our (3) _____ experiences and senses. Yet our training was in many ways diametrically (4) _____ to the information, experiences and beliefs we had accumulated. So we remained (5) _____.

SubQuestion No : 19

Q.19 Select the most appropriate option to fill in blank number 4.

- Ans 1. diagonal
 2. perpendicular
 3. straight
 4. opposite

Question ID : 26433070781

Status : Not Answered

Chosen Option : --

Comprehension:

In the following passage, some words have been deleted. Read the passage carefully and select the most appropriate option to fill in each blank.

I understood why these highly (1) _____ professionals remained in the closet. I was one of (2) _____. We could not deny our (3) _____ experiences and senses. Yet our training was in many ways diametrically (4) _____ to the information, experiences and beliefs we had accumulated. So we remained (5) _____.

SubQuestion No : 20

Q.20 Select the most appropriate option to fill in blank number 5.

- Ans
- 1. quite
 - 2. shut
 - 3. quiet
 - 4. drawn

Question ID : 26433070782

Status : Not Answered

Chosen Option : --

Section : Part-D-Hindi

Q.1 इनमें से कौन-सा शब्द 'चंदन' का पर्यायवाची नहीं है?

- Ans
- 1. मलयज
 - 2. नौध
 - 3. गंधराज
 - 4. दारुसार

Question ID : 26433066903

Status : Not Answered

Chosen Option : --

Q.2 निम्नलिखित वाक्यांश के लिए एक सार्थक शब्द चुनिए।
अनुचित बात के लिए हठ -

- Ans
- 1. दृष्टव्य
 - 2. पारदर्शक
 - 3. दुर्गम्य
 - 4. दुराग्रह

Question ID : 26433062732

Status : Answered

Chosen Option : 4

Q.3 दिए गए मुहावरे में रेखांकित अंश के स्थान पर सबसे उपयुक्त विकल्प कौन-सा होगा?
चेहरे पर मिठाईयां उड़ना।

- Ans
- 1. दवाईयां
 - 2. हवाईयां
 - 3. कलाईयां
 - 4. रुलाईयां

Question ID : 26433066744
Status : Answered
Chosen Option : 2

Q.4 निम्न में से किस वाक्य में 'कर' के सही अनेकार्थी शब्द का प्रयोग हुआ है?

- Ans
- 1. विकास अत्यंत उत्साही था।
 - 2. नयन ने वह कार्य पूरा नहीं किया।
 - 3. राजीव ने अपने हाथ खड़े कर दिए।
 - 4. यह अत्यंत गंभीर मामला है।

Question ID : 26433085143
Status : Answered
Chosen Option : 3

Q.5 "घर के सभी सदस्यों ने मिलकर इसको विचार किया।" इस वाक्य का शुद्ध रूप क्या होगा?

- Ans
- 1. घर के सभी सदस्यों ने मिलकर इसमें विचार किया।
 - 2. घर के सभी सदस्यों ने मिलकर इस पर विचार किया।
 - 3. घर के सभी सदस्यों मिलकर इसे विचारा।
 - 4. घर के सभी सदस्यों ने मिलकर इसे विचार किया।

Question ID : 26433066995
Status : Answered
Chosen Option : 2

Q.6 निम्न वाक्य में द्रव्य वाचक संज्ञा का गलत प्रयोग हुआ है। त्रुटि पहचानिए।
घर में घी पीसा गया।

- Ans
- 1. पीसा
 - 2. गया
 - 3. घी
 - 4. घर में

Question ID : 26433079223
Status : Answered
Chosen Option : 3

Q.7 निम्नलिखित विकल्पों में से किस एक वाक्य में क्रिया सम्बन्धी अशुद्धि है?

- Ans
- ✓ 1. आप वहाँ जाने सकेंगे।
 - ✗ 2. मैंने उस पत्र पर हस्ताक्षर कर दिए।
 - ✗ 3. उसका कहना था कि आप उसे जानते हैं।
 - ✗ 4. वह भोजन कर चुका है।

Question ID : 26433062944

Status : Answered

Chosen Option : 1

Q.8 पूज्य व्यक्तियों की सेवा कीजिए।

उपरोक्त वाक्य में रेखांकित पद के बदले निम्न में से उसका कौन-सा समानार्थी शब्द प्रयोग हो सकता है?

- Ans
- ✓ 1. शुश्रूषा
 - ✗ 2. प्रार्थना
 - ✗ 3. स्तुति
 - ✗ 4. भक्ति

Question ID : 26433063098

Status : Answered

Chosen Option : 1

Q.9 'बादल की तरह गरजने वाला'

ऊपर दिए गए वाक्यांश के लिए एक शब्द क्या होगा?

- Ans
- ✗ 1. तमिस्रा
 - ✗ 2. व्यापाद
 - ✗ 3. हिमनद
 - ✓ 4. मेघनाद

Question ID : 26433070057

Status : Answered

Chosen Option : 4

Q.10 निम्नलिखित में से शुद्ध वाक्य कौन-सा है?

- Ans
- ✗ 1. यहाँ शुद्ध भैंस का दूध मिलता है।
 - ✗ 2. ग्रीष्मकाल में दिन छोटा होते हैं।
 - ✗ 3. वह सोमवार के दिन आएगा।
 - ✓ 4. विंध्याचल पर्वत भारत के मध्य भाग में स्थित है।

Question ID : 26433066996

Status : Marked For Review

Chosen Option : 3

Q.11 निम्न वाक्य के रेखांकित अंश को विकल्पों में दिए गए किस शब्द से बदला जा सकता है?
बहुत-से लोग उनके विवाह-समारोह में सम्मिलित हुए।

- Ans
- 1. तिलकोत्सव
 - 2. मदनोत्सव
 - 3. महोत्सव
 - 4. विवाहोत्सव

Question ID : 26433066876

Status : Answered

Chosen Option : 4

Q.12 संयुक्त वाक्य - 'वह दंड से बचना चाहता था, इसलिए भाग गया।' निम्नलिखित विकल्पों में से इस वाक्य के लिए कौन सा एक उचित सरल वाक्य होगा?

- Ans
- 1. वह दंड से बचना चाहता था भाग गया।
 - 2. बचना चाहता था,इसलिए भाग गया।
 - 3. दंड से बचने के लिए वह भाग गया।
 - 4. वह बचना चाहता था,इसलिए भाग गया।

Question ID : 26433062441

Status : Answered

Chosen Option : 3

Q.13 निम्नलिखित वाक्य के रिक्त स्थान में सबसे उपयुक्त मुहावरा क्या होगा?
'सेठ जी _____ का हिसाब लेते हैं'

- Ans
- 1. कदम-कदम
 - 2. पानी-पानी
 - 3. पाई- पाई
 - 4. बात-बात

Question ID : 26433066730

Status : Answered

Chosen Option : 3

Q.14 'राहुल की मित्रता सोहन के अनुकूल है।' इस वाक्य में प्रयुक्त 'अनुकूल' शब्द का अर्थ क्या होगा?

- Ans
- 1. अनुपयुक्तता का भाव
 - 2. किसी पक्ष के लिए लाभकारी होना
 - 3. किसी के लिए उपयोगी न होना
 - 4. किसी के लिए निकम्मा होना

Question ID : 26433080920

Status : Answered

Chosen Option : 2

Q.15 उपस्थित व्यक्तियों में सब ने उसकी पूजा की।
उपरोक्त वाक्य में रेखांकित शब्द के स्थान पर आ सकने वाला सर्वोचित विकल्प चुनिए।

- Ans
- 1. प्रशंसा
 - 2. कामना
 - 3. उपासना
 - 4. स्तुति

Question ID : 26433084955

Status : Answered

Chosen Option : 1

Comprehension:

निम्नलिखित गद्यांश में कुछ शब्दों को हटा दिया गया है। दिए गए विकल्पों की सहायता से रिक्त स्थानों की पूर्ति कीजिए। प्रत्येक संख्या के लिए सबसे उपयुक्त विकल्प का चयन कीजिए।
मानव सृष्टि पाँच 1. _____ से मिल कर बनी है। उनमें जल का 2. _____ किसी से कम नहीं है। सूर्य का ताप इस जल को 3. _____ के रूप में परिवर्तित करता है जो बादल बनकर पर्वतों पर बर्फ के रूप में तथा मैदानी क्षेत्रों में वर्षा के रूप में फिर आ जाता है। पर्वतीय क्षेत्रों में बर्फ पिघलकर नदियों के रूप में समुद्र तक की 4. _____ करती है। इस प्रकार समुद्र का जल फिर समुद्र में जाकर 5. _____ जाता है।

SubQuestion No : 16

Q.16 रिक्त स्थान 1 की पूर्ति के लिए सबसे उपयुक्त विकल्प का चयन कीजिए।

- Ans
- 1. प्रकारों
 - 2. कारणों
 - 3. प्रकृति
 - 4. तत्वों

Question ID : 264330110957

Status : Answered

Chosen Option : 4

Comprehension:

निम्नलिखित गद्यांश में कुछ शब्दों को हटा दिया गया है। दिए गए विकल्पों की सहायता से रिक्त स्थानों की पूर्ति कीजिए। प्रत्येक संख्या के लिए सबसे उपयुक्त विकल्प का चयन कीजिए।
मानव सृष्टि पाँच 1. _____ से मिल कर बनी है। उनमें जल का 2. _____ किसी से कम नहीं है। सूर्य का ताप इस जल को 3. _____ के रूप में परिवर्तित करता है जो बादल बनकर पर्वतों पर बर्फ के रूप में तथा मैदानी क्षेत्रों में वर्षा के रूप में फिर आ जाता है। पर्वतीय क्षेत्रों में बर्फ पिघलकर नदियों के रूप में समुद्र तक की 4. _____ करती है। इस प्रकार समुद्र का जल फिर समुद्र में जाकर 5. _____ जाता है।

SubQuestion No : 17

Q.17 रिक्त स्थान 2 की पूर्ति के लिए सबसे उपयुक्त विकल्प का चयन कीजिए।

- Ans
- 1. कारण
 - 2. पानी
 - 3. महत्व
 - 4. बचाव

Question ID : 264330110958

Status : Answered

Chosen Option : 3

Comprehension:

निम्नलिखित गद्यांश में कुछ शब्दों को हटा दिया गया है। दिए गए विकल्पों की सहायता से रिक्त स्थानों की पूर्ति कीजिए। प्रत्येक संख्या के लिए सबसे उपयुक्त विकल्प का चयन कीजिए।
मानव सृष्टि पाँच 1. _____ से मिल कर बनी है। उनमें जल का 2. _____ किसी से कम नहीं है। सूर्य का ताप इस जल को 3. _____ के रूप में परिवर्तित करता है जो बादल बनकर पर्वतों पर बर्फ के रूप में तथा मैदानी क्षेत्रों में वर्षा के रूप में फिर आ जाता है। पर्वतीय क्षेत्रों में बर्फ पिघलकर नदियों के रूप में समुद्र तक की 4. _____ करती है। इस प्रकार समुद्र का जल फिर समुद्र में जाकर 5. _____ जाता है।

SubQuestion No : 18

Q.18 रिक्त स्थान 3 की पूर्ति के लिए सबसे उपयुक्त विकल्प का चयन कीजिए।

- Ans
- 1. कण
 - 2. वर्षा
 - 3. बर्फ
 - 4. वाष्प

Question ID : 264330110959

Status : Answered

Chosen Option : 4

Comprehension:

निम्नलिखित गद्यांश में कुछ शब्दों को हटा दिया गया है। दिए गए विकल्पों की सहायता से रिक्त स्थानों की पूर्ति कीजिए। प्रत्येक संख्या के लिए सबसे उपयुक्त विकल्प का चयन कीजिए।
मानव सृष्टि पाँच 1. _____ से मिल कर बनी है। उनमें जल का 2. _____ किसी से कम नहीं है। सूर्य का ताप इस जल को 3. _____ के रूप में परिवर्तित करता है जो बादल बनकर पर्वतों पर बर्फ के रूप में तथा मैदानी क्षेत्रों में वर्षा के रूप में फिर आ जाता है। पर्वतीय क्षेत्रों में बर्फ पिघलकर नदियों के रूप में समुद्र तक की 4. _____ करती है। इस प्रकार समुद्र का जल फिर समुद्र में जाकर 5. _____ जाता है।

SubQuestion No : 19

Q.19 रिक्त स्थान 4 की पूर्ति के लिए सबसे उपयुक्त विकल्प का चयन कीजिए।

- Ans
- 1. क्षेत्र
 - 2. स्थान
 - 3. यात्रा
 - 4. चर्चा

Question ID : 264330110960

Status : Answered

Chosen Option : 3

Comprehension:

निम्नलिखित गद्यांश में कुछ शब्दों को हटा दिया गया है। दिए गए विकल्पों की सहायता से रिक्त स्थानों की पूर्ति कीजिए। प्रत्येक संख्या के लिए सबसे उपयुक्त विकल्प का चयन कीजिए।

मानव सृष्टि पाँच 1. _____ से मिल कर बनी है। उनमें जल का 2. _____ किसी से कम नहीं है। सूर्य का ताप इस जल को 3. _____ के रूप में परिवर्तित करता है जो बादल बनकर पर्वतों पर बर्फ के रूप में तथा मैदानी क्षेत्रों में वर्षा के रूप में फिर आ जाता है। पर्वतीय क्षेत्रों में बर्फ पिघलकर नदियों के रूप में समुद्र तक की 4. _____ करती है। इस प्रकार समुद्र का जल फिर समुद्र में जाकर 5. _____ जाता है।

SubQuestion No : 20

Q.20 रिक्त स्थान 5 की पूर्ति के लिए सबसे उपयुक्त विकल्प का चयन कीजिए।

- Ans
- 1. दे
 - 2. बन
 - 3. बह
 - 4. मिल

Question ID : 264330110961

Status : Answered

Chosen Option : 4

KD Job Updates

Constable GD in CAPFs SSF Rifleman GD in Assam Rifles and Sepoy in NCB Examination 2022

Roll Number	KD Job Updates
Candidate Name	KD Job Updates
Venue Name	iON Digital Zone iDZ Nausarh Chowk
Exam Date	24/01/2023
Exam Time	11:45 AM - 12:45 PM
Subject	Constable GD Examination 2022

Section : Part-A-General Intelligence and Reasoning

Q.1 उस विकल्प का चयन कीजिए जो तीसरे शब्द से उसी प्रकार संबंधित है जिस प्रकार दूसरा शब्द पहले शब्द से संबंधित है। (शब्दों को अर्थपूर्ण शब्दों के रूप में मानना है और उन्हें शब्द में अक्षरों/व्यंजनों/स्वरों की संख्या के आधार पर एक-दूसरे से संबंधित नहीं करना है।)
डेनमार्क : कोपेनहेगन :: केन्या : ?

- Ans
- 1. नैरोबी
 - 2. ओस्लो
 - 3. एथेंस
 - 4. मापुटो

Question ID : 26433067372

Status : Answered

Chosen Option : 1

Q.2 एक निश्चित भाषा में TRAVEL को GIZEVO और POLICY को KLORXB के रूप में कूटबद्ध किया जाता है। इसी भाषा में FAMILY को किस प्रकार कूटबद्ध किया जाएगा?

- Ans
- 1. YLIMAF
 - 2. GBNJMZ
 - 3. UZNROB
 - 4. MAFYIL

Question ID : 26433074594

Status : Answered

Chosen Option : 3

Q.3 किस विकल्प में निम्नलिखित शब्दों का वह क्रम दिया गया है, जिस क्रम में वे अंग्रेजी शब्दकोश में आते हैं।
1 Naughty
2 Nasty
3 Nail
4 Name
5 Natural

Ans ✓ 1. 3,4,2,5,1

✗ 2. 4,3,2,5,1

✗ 3. 3,4,1,2,5

✗ 4. 3,2,5,4,1

Question ID : 26433069275

Status : Answered

Chosen Option : 1

Q.4 दी गई आकृति के सही दर्पण प्रतिबिम्ब का चयन करें जब दर्पण को MN पर रखा जाए जैसा कि नीचे दर्शाया गया है।

aStRonaUT
M
|
N

Ans ✗ 1. TυεηoЯt2A

✗ 2. TυεηoЯt2ε

✗ 3. TυεηoЯt2A

✓ 4. TυεηoЯt2ε

Question ID : 26433085563

Status : Answered

Chosen Option : 4

Q.5 यदि '+' का अर्थ है 'x', '-' का अर्थ है ':', '÷' का अर्थ है '+', और 'x' का अर्थ है '-', तो निम्नलिखित में से कौन-सा अभिव्यक्ति का मान होगा?
 $12 + 5 - 24 \times 3 \div 5$

- Ans
- 1. 68
 - 2. 53
 - 3. 63
 - 4. 13

Question ID : 264330114187

Status : Answered

Chosen Option : 3

Q.6 एक परिवार में सात सदस्य हैं। A, C से विवाहित है। A के दो बच्चे B और E हैं। A, B और E की माँ है। B, L की पत्नी है। P, E की पत्नी है। L की एक बेटी G है। E की एक बेटी K है। C, K से किस प्रकार संबंधित है?

- Ans
- 1. नाना
 - 2. बेटा
 - 3. दादा
 - 4. भाई

Question ID : 26433074596

Status : Answered

Chosen Option : 1

Q.7 उस विकल्प का चयन करें, जो पाँचवीं संख्या से उसी प्रकार संबंधित है, जिस प्रकार दूसरी संख्या, पहली संख्या से संबंधित है और चौथी संख्या, तीसरी संख्या से संबंधित है।
 $34 : 5 :: 13 : 2 :: 27 : ?$

- Ans
- 1. 6
 - 2. 4
 - 3. 9
 - 4. 11

Question ID : 26433069419

Status : Answered

Chosen Option : 2

Q.8 उस विकल्प का चयन कीजिए जो तीसरे शब्द से उसी प्रकार संबंधित है जिस प्रकार दूसरा शब्द पहले शब्द से संबंधित है। (शब्दों को अर्थपूर्ण शब्दों के रूप में मानना है और उन्हें शब्द में अक्षरों/व्यंजनों/स्वरों की संख्या के आधार पर एक-दूसरे से संबंधित नहीं करना है।)
लूडो : पासा :: क्रिकेट : ?

- Ans
- 1. आउटडोर
 - 2. बल्ला
 - 3. तीव्र
 - 4. फूटबाल

Question ID : 26433079481

Status : Answered

Chosen Option : 2

Q.9 नीचे दिए गए समीकरण को गणितीय रूप से सही बनाने के लिए किन दो चिन्हों को परस्पर बदलना चाहिए?

$$96 \times 8 + 27 \div 6 - 12 = 162$$

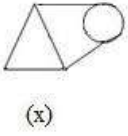
- Ans
- ✓ 1. \times और \div
 - ✗ 2. \div और $-$
 - ✗ 3. $+$ और $-$
 - ✗ 4. \times और $+$

Question ID : 264330117531

Status : Answered

Chosen Option : 1

Q.10 उस विकल्प आकृति का चयन कीजिए जिसमें दी गई आकृति (X) उसके भाग के रूप में निहित है (आकृति को घुमाने की अनुमति नहीं है)।



- Ans
- ✓ 1.
 - ✗ 2.
 - ✗ 3.
 - ✗ 4.

Question ID : 26433069545

Status : Answered

Chosen Option : 1

Q.11 छः विद्यार्थी एक वृत्ताकार मेज के परितः मेज के केंद्र की ओर मुख करके बैठे हैं। F, A के ठीक बगल में है। D, E के दाईं ओर दूसरे स्थान पर बैठा है। B, E के ठीक बगल में है, और C के दाईं ओर दूसरे स्थान पर बैठा है। F, D के दाईं ओर दूसरे स्थान पर बैठा है। A, E के ठीक बगल में नहीं है। D के दाईं ओर से गणना करने पर, D और C के मध्य कौन बैठा है?

- Ans
- ✗ 1. F और B
 - ✗ 2. A और B
 - ✓ 3. A और F
 - ✗ 4. A और E

Question ID : 26433086263

Status : Answered

Chosen Option : 3

Q.12 निम्नलिखित में से कौन-सी संख्याएं दी गई श्रृंखला में प्रश्न-चिह्नों (?) के स्थान पर आएंगी?
1, 3, 6, 10, ?, ?, 28, 36, 45, 55

- Ans 1. 12, 15
 2. 15, 21
 3. 21, 24
 4. 16, 24

Question ID : 26433069053
Status : Answered
Chosen Option : 2

Q.13 निम्नलिखित में से कौन-सा अक्षर-समूह दी गई श्रृंखला में प्रश्न-चिह्न (?) के स्थान पर आएगा?
FJOT, GIPS, ?, IGRQ, JFSP

- Ans 1. HHQR
 2. HIQQ
 3. IHPR
 4. HHRQ

Question ID : 26433076435
Status : Answered
Chosen Option : 1

Q.14 तीन कथनों के बाद तीन निष्कर्ष दिए गए हैं। कथनों को सत्य मानते हुए, भले ही वे सामान्य रूप से ज्ञात तथ्यों से भिन्न प्रतीत होते हों, निर्णय करें कि कौन सा/से निष्कर्ष कथनों का तार्किक रूप से अनुसरण करता/करते है/हैं।

कथन:

कुछ रेशम कपास हैं।

सभी कपास जूट हैं।

कुछ जूट रेशम नहीं हैं।

निष्कर्ष:

1. कुछ जूट रेशम हैं।

2. सभी रेशम जूट हैं।

3. सभी कपास रेशम हैं।

- Ans 1. केवल निष्कर्ष 2 और 3 अनुसरण करते हैं।
 2. केवल निष्कर्ष 1 और 2 अनुसरण करते हैं।
 3. केवल निष्कर्ष 1 अनुसरण करता है।
 4. केवल निष्कर्ष 3 अनुसरण करता है।

Question ID : 26433089425
Status : Answered
Chosen Option : 3

Q.15 पांच व्यक्ति P, Q, R, S और T एक सीधी पंक्ति में उत्तर की ओर मुख करके बैठे हैं। P, S के दाईं ओर ठीक बगल में बैठा है। S, T और P के बीच में बैठा है। Q, पंक्ति के अंतिम बाएं सिरे पर बैठा है। R, Q के दाईं ओर ठीक बगल में बैठा है। Q और T के बीच में कौन बैठा है?

- Ans
- 1. S
 - 2. R
 - 3. P
 - 4. T

Question ID : 26433074623

Status : Answered

Chosen Option : 2

Q.16 निम्नलिखित में से कौन-सी संख्याएं दी गई श्रृंखला में प्रश्न-चिह्नों (?) के स्थान पर आएंगी?
101, 110, 122, 137, ?, 176, ?

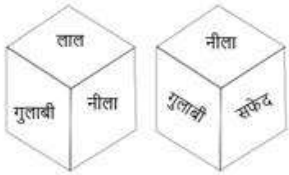
- Ans
- 1. 170, 240
 - 2. 165, 230
 - 3. 155, 200
 - 4. 160, 220

Question ID : 26433070227

Status : Answered

Chosen Option : 3

Q.17 एक ही पासे की दो अलग-अलग स्थितियों को दर्शाया गया है जिस पर लाल, नीला, गुलाबी, हरा, सफेद और काला रंग हैं। 'लाल' दर्शाने वाले फलक के विपरीत फलक पर स्थित रंग ज्ञात कीजिए।



- Ans
- 1. सफेद
 - 2. हरा
 - 3. गुलाबी
 - 4. काला

Question ID : 26433085516

Status : Answered

Chosen Option : 1

Q.18 एक निश्चित कूट भाषा में, 'STORY' को 'ZSPUT' के रूप में लिखा जाता है और 'MUSIC' को 'DJTVN' के रूप में लिखा जाता है। उसी भाषा में 'PRINT' को कैसे लिखा जाएगा?

- Ans 1. UOJSQ
 2. UJOSQ
 3. QSJOU
 4. UOJTQ

Question ID : 26433069639

Status : Answered

Chosen Option : 1

Q.19 निम्नलिखित में से कौन-सा अक्षर-समूह नीचे दी गई अक्षर-समूह श्रृंखला में प्रश्न-चिह्न (?) के स्थान पर आकर श्रृंखला को पूर्ण करेगा?
CC, XD, SE, NF, ?

- Ans 1. IH
 2. IG
 3. IF
 4. JG

Question ID : 26433067289

Status : Answered

Chosen Option : 2

KD Job Updates

Q.20 यदि श्रृंखला जारी रखनी है तो कौन-सी आकृति प्रश्न चिह्न (?) के स्थान पर

आएगी?

□	9	↑	↑	X	S	S	↑	X	X	B	9	
	X			4			B			□		?
V	4	S	□	9	V	V	□	9	S	↑	V	

Ans

✗ 1.

B	9	X
	6	
↑	V	S

✓ 2.

9	X	B
	6	
V	S	↑

✗ 3.

9	X	B
	□	
V	S	↑

✗ 4.

V	X	B
	9	
□	S	↑

KD Job Updates

Question ID : 26433076626

Status : Answered

Chosen Option : 2

Section : Part-B-General Knowledge and General awareness

Q.1 समीर वेंकटपति कामत ने अगस्त 2022 में रक्षा अनुसंधान एवं विकास संगठन के नया अध्यक्ष के रूप में किसे प्रतिस्थापित किया?

- Ans
- ✗ 1. ललित कुमार
 - ✗ 2. राजवन्त सिंह
 - ✓ 3. जी. सतीश रेड्डी
 - ✗ 4. भुजंग राव

Question ID : 264330115021

Status : Answered

Chosen Option : 3

Q.2 मौलिक कर्तव्यों की कौन-सी उपधारा स्वतंत्रता के लिए हमारे राष्ट्रीय संघर्ष को प्रेरित करने वाले उच्च आदर्शों को हृदय में संजोए रखे और उनका पालन करें के बारे में बात करती है?

- Ans
- 1. उप-धारा b
 - 2. उप-धारा a
 - 3. उप-धारा c
 - 4. उप-धारा d

Question ID : 26433054525

Status : Answered

Chosen Option : 1

Q.3 _____, 2019 भारत की संसद का एक अधिनियम है जो तीन तलाक को अपराध मानता है।

- Ans
- 1. महिला संरक्षण अधिनियम
 - 2. मुस्लिम महिला (विवाह पर अधिकारों का संरक्षण) अधिनियम
 - 3. लैंगिक अपराधों से बालकों का संरक्षण अधिनियम
 - 4. महिला अधिकार अधिनियम

Question ID : 264330116225

Status : Answered

Chosen Option : 1

Q.4 _____ देशों के केंद्रीय बैंकों द्वारा धारित विदेशी मुद्रा परिसंपत्तियां हैं।

- Ans
- 1. स्थानीय विनिमय
 - 2. दर विनिमय
 - 3. साख नियंत्रण
 - 4. विदेशी मुद्रा रिज़र्व

Question ID : 264330115318

Status : Answered

Chosen Option : 4

Q.5 Where does hydrarch succession take place?

- Ans
- 1. semi-arid areas
 - 2. dry areas
 - 3. grasslands
 - 4. wet areas

Question ID : 264330115255

Status : Answered

Chosen Option : 4

Q.6 निम्नलिखित त्यौहारों में से किसे शीत ऋतु के त्यौहार के रूप में भी जाना जाता है?

- Ans
- 1. मोत्सु
 - 2. चकान गान-नगई
 - 3. वंगाला
 - 4. चापचर कुट

Question ID : 264330115092
Status : Answered
Chosen Option : 1

Q.7 इनामगाँव गाँव भारत के किस राज्य में स्थित है?

- Ans
- 1. महाराष्ट्र
 - 2. पंजाब
 - 3. मध्य प्रदेश
 - 4. केरल

Question ID : 26433090570
Status : Answered
Chosen Option : 1

Q.8 निम्नलिखित में से किस राज्य ने भारत के 2015 के राष्ट्रीय खेलों में सर्वाधिक रजत पदक जीते?

- Ans
- 1. केरल
 - 2. हरियाणा
 - 3. गोवा
 - 4. मध्य प्रदेश

Question ID : 264330115958
Status : Answered
Chosen Option : 2

Q.9 _____ में मुस्लिम लीग ने देश के पश्चिमोत्तर तथा पूर्वी क्षेत्रों में मुसलमानों के लिए "स्वतंत्र राज्यों" की माँग करते हुए एक प्रस्ताव पारित किया।

- Ans
- 1. 1942
 - 2. 1940
 - 3. 1938
 - 4. 1943

Question ID : 264330115699
Status : Answered
Chosen Option : 2

Q.10 किस राजनीतिक नेता ने जून 2022 में बंधु तिरकी को मांडर, झारखंड से विधान सभा का सदस्य बनने हेतु पदारोहित किया?

- Ans
- 1. राघव चड्ढा
 - 2. शिल्पी नेहा तिरकी
 - 3. अरविंद केजरीवाल
 - 4. दशरथ तिरकी

Question ID : 264330114906
Status : Answered
Chosen Option : 4

Q.11 प्रथम पंचवर्षीय योजना की अवधि _____ के बीच थी।

- Ans
- 1. 1980-1985
 - 2. 1951-1956
 - 3. 1910-1915
 - 4. 1960-1965

Question ID : 264330115372
Status : Answered
Chosen Option : 2

Q.12 _____ भारत का पहला राज्य है जिसने पूरे राज्य में सभी घरों के लिए छत के वर्षा जल संग्रहण ढाँचों को अनिवार्य कर दिया है।

- Ans
- 1. पश्चिम बंगाल
 - 2. हरयाणा
 - 3. तमिलनाडु
 - 4. उत्तर प्रदेश

Question ID : 264330116001
Status : Answered
Chosen Option : 3

Q.13 गोपाल प्रसाद दुबे को किस नृत्य शैली के लिए पद्म श्री से सम्मानित किया गया?

- Ans
- 1. कुचिपुड़ी
 - 2. मोहिनीअट्टम
 - 3. रचनात्मक नृत्य
 - 4. छऊ

Question ID : 264330115879
Status : Answered
Chosen Option : 1

Q.14 क्रिकेट में, दो विकेटों के बीच की दूरी कितनी होती है?

- Ans
- 1. 21 गज
 - 2. 23 गज
 - 3. 22 गज
 - 4. 24 गज

Question ID : 264330116296

Status : Answered

Chosen Option : 3

Q.15 अपने पहले चरण में, राष्ट्रीय ग्रामीण रोजगार गारंटी अधिनियम के विस्तार से पहले कितने जिलों को आवृत्त (covered) किया गया था?

- Ans
- 1. 300
 - 2. 400
 - 3. 200
 - 4. 500

Question ID : 264330116079

Status : Answered

Chosen Option : 2

Q.16 भारत में हरित क्रांति के दूसरे चरण की अवधि क्या थी?

- Ans
- 1. 1960 के दशक के मध्य से 1970 के दशक के मध्य तक
 - 2. 1970 के दशक के मध्य से 1980 के दशक के मध्य तक
 - 3. 1950 के दशक के मध्य से 1960 के दशक के मध्य तक
 - 4. 1980 के दशक के मध्य से 1990 के दशक के मध्य तक

Question ID : 264330116159

Status : Answered

Chosen Option : 2

Q.17 पृथ्वी के संदर्भ में सही कथन की पहचान कीजिए।

- Ans
- 1. ध्रुवों से भूमध्य रेखा की ओर जाने पर पृथ्वी का व्यास घटता जाता है।
 - 2. ध्रुवों से भूमध्य रेखा की ओर जाने पर पृथ्वी की त्रिज्या बढ़ती जाती है।
 - 3. ध्रुवों तक आने तक भूमध्य रेखा का व्यास बढ़ता जाता है।
 - 4. ध्रुवों से भूमध्य रेखा की ओर जाने पर पृथ्वी की त्रिज्या घटती जाती है।

Question ID : 26433086738

Status : Not Answered

Chosen Option : --

Q.18 ज़ो मल लोक (Zo Mal Lok), निम्नलिखित में से किस राज्य से संबंधित प्रसिद्ध नृत्य है?

- Ans
- 1. बिहार
 - 2. उत्तराखंड
 - 3. हरियाणा
 - 4. सिक्किम

Question ID : 26433071662

Status : Answered

Chosen Option : 4

Q.19 उद्योगों का एक समूह जो शहरी केंद्रों द्वारा प्रदान किए जाने वाले लाभों का उपयोग करने के लिए एक साथ आने की प्रवृत्ति रखता है, उसे क्या कहा जाता है?

- Ans
- 1. शहरी अर्थव्यवस्था
 - 2. समूहन अर्थव्यवस्था (agglomeration economies)
 - 3. एकीकरण अर्थव्यवस्था (amalgamation economies)
 - 4. ग्रामीण अर्थव्यवस्था

Question ID : 264330115565

Status : Answered

Chosen Option : 2

Q.20 राज्य की कार्य पालिका की शक्ति _____ के पास होती है।

- Ans
- 1. उच्च न्यायालय के मुख्य न्यायाधीश
 - 2. राज्यपाल
 - 3. मंत्रिमंडल
 - 4. मुख्यमंत्री

Question ID : 26433086853

Status : Answered

Chosen Option : 2

Section : Part-C-Elementary Mathematics

Q.1 उमेश और रमेश एक कार्य को क्रमशः 28 और 21 दिनों में पूरा कर सकते हैं। उमेश से शुरू करते हुए, वे एकांतर दिनों (एक-एक दिन छोड़कर) में काम करते हैं। काम कितने दिनों में पूरा होगा?

- Ans
- 1. 12 दिन
 - 2. 24 दिन
 - 3. 16 दिन
 - 4. 26 दिन

Question ID : 26433075741

Status : Answered

Chosen Option : 2

Q.2 मोना ने Rs.1,500 प्रत्येक में दो हैंडबैग खरीदे। उसने इन बैगों को बेच दिया, एक बैग पर 8% का लाभ और दूसरे पर 4% की हानि हुई। पूरे लेन-देन में उसका लाभ या हानि प्रतिशत ज्ञात कीजिए।

- Ans
- 1. 1%
 - 2. 4%
 - 3. 2%
 - 4. 3%

Question ID : 26433066360

Status : Answered

Chosen Option : 3

Q.3 Rs.65,000 की धनराशि पर तीन वर्ष में Rs.21,515 का चक्रवृद्धि ब्याज प्राप्त होता है। राशि पर वार्षिक रूप से चक्रवृद्धि होने वाली ब्याज दर ज्ञात करें।

- Ans
- 1. 13%
 - 2. 10%
 - 3. 12%
 - 4. 11%

Question ID : 26433075862

Status : Answered

Chosen Option : 2

Q.4 13 cm, 14 cm और 15 cm भुजाओं वाले त्रिभुज का क्षेत्रफल ज्ञात कीजिए।

- Ans
- 1. 74 cm^2
 - 2. 84 cm^2
 - 3. 64 cm^2
 - 4. 94 cm^2

Question ID : 26433075173

Status : Answered

Chosen Option : 2

Q.5 एक ट्रेन की लंबाई 150 मीटर है। समान दिशा में 2 km/h की चाल से चलते हुए एक व्यक्ति को यह 3 सेकंड में पार कर जाती है। ट्रेन की चाल निर्धारित कीजिए।

- Ans
- 1. 190 km/h
 - 2. 182 km/h
 - 3. 167 km/h
 - 4. 172 km/h

Question ID : 26433065294

Status : Answered

Chosen Option : 2

Q.6 अब्दुल का वेतन Rs.1,50,000 प्रति माह है। वह अपने वेतन का 10% स्कूल की फीस का भुगतान करने पर खर्च करता है। जुलाई के महीने में उसके वेतन में 3% की वृद्धि हुई, लेकिन उसी महीने स्कूल की फीस में 5% की वृद्धि हुई। यदि अन्य व्यय पूर्ववत् हैं, तो जुलाई के महीने में उसकी बचत में शुद्ध परिवर्तन क्या होगा?

- Ans
- 1. Rs.2,750 की कमी
 - 2. Rs.3,750 की कमी
 - 3. Rs.2,750 की वृद्धि
 - 4. Rs.3,750 की वृद्धि

Question ID : 26433075967

Status : Not Attempted and Marked For Review

Chosen Option : --

Q.7

$3\frac{6}{7} \div 5\frac{1}{7} \times 3\frac{1}{2} \div 5\frac{1}{4}$ का मान ज्ञात कीजिए।

- Ans
- 1. $\frac{1}{7}$
 - 2. $\frac{1}{5}$
 - 3. $\frac{3}{7}$
 - 4. $\frac{1}{2}$

Question ID : 26433074447

Status : Answered

Chosen Option : 4

Q.8 उस अर्धगोले का आयतन (दो दशमलव अंक तक) ज्ञात कीजिए, जिसकी त्रिज्या 5.5 cm है।

- Ans
- 1. 3486.0 cm³
 - 2. 34.860 cm³
 - 3. 348.60 cm³
 - 4. 34860 cm³

Question ID : 26433075509

Status : Answered

Chosen Option : 3

Q.9 प्रसाद अकेले एक कार्य को 144 दिनों में पूरा कर सकता है। 16 दिनों में उसी कार्य को पूरा करने के लिए प्रसाद जैसी ही दक्षता वाले कितने लोगों की आवश्यकता थी?

- Ans 1. 6
 2. 9
 3. 11
 4. 7

Question ID : 264330116909
Status : Answered
Chosen Option : 2

Q.10 Which of the following pairs of numbers are relatively prime?

- Ans 1. 24 and 68
 2. 24 and 92
 3. 39 and 68
 4. 24 and 38

Question ID : 26433082593
Status : Answered
Chosen Option : 3

Q.11 20%, 5% और 2% की तीन क्रमिक छूटों के बराबर एक एकल छूट क्या होगी?

- Ans 1. 25.52%
 2. 26.52%
 3. 25.25%
 4. 27%

Question ID : 26433087364
Status : Answered
Chosen Option : 1

Q.12 जब 6, 8, 12 और 20 प्रत्येक में से समान संख्या घटा दी जाती है, तो परिणामी संख्याएँ समानुपात में होती हैं। घटाई गई संख्या _____ है।

- Ans 1. 4
 2. 6
 3. 2
 4. 3

Question ID : 26433082391
Status : Answered
Chosen Option : 1

Q.13 दो उम्मीदवारों के बीच एक चुनाव में, डाले गए मतों में से 70% मत प्राप्त करने वाले उम्मीदवार को 16,000 मतों के बहुमत से चुना जाता है। जीतने वाले उम्मीदवार के पक्ष में डाले गए मतों की संख्या क्या है?

- Ans 1. 28000
 2. 30000
 3. 24000
 4. 26000

Question ID : 26433082964
Status : Answered
Chosen Option : 1

Q.14 एक स्पोर्ट्स क्लब में 86% सदस्य पुरुष हैं और 14% सदस्य महिलाएं हैं। यदि पुरुषों की औसत आयु 25 वर्ष है और महिलाओं की औसत आयु 35 वर्ष है, तो सभी सदस्यों की औसत आयु (वर्षों में) क्या है?

- Ans 1. 26.4
 2. 26.6
 3. 26.8
 4. 26.2

Question ID : 26433082958
Status : Answered
Chosen Option : 1

Q.15 $(b^2 - a^2)$ और $(b^2 - ab)$ का तृतीयानुपाती ज्ञात कीजिए।

- Ans 1. $(b - a)$
 2. $\frac{b^2(b - a)}{(b + a)}$
 3. $\frac{b^2(b + a)}{(b - a)}$
 4. $(b + a)$

Question ID : 26433075553
Status : Answered
Chosen Option : 2

Q.16 एक व्यक्ति ₹3,310 की धनराशि उधार लेता है और इसे पहले, दूसरे और तीसरे वर्ष के अंत में तीन समान वार्षिक किश्तों में 10% वार्षिक चक्रवृद्धि ब्याज की दर पर वापस चुकाने का वचन देता है। प्रत्येक किश्त की राशि क्या है?

- Ans
- 1. ₹2,110
 - 2. ₹1,021
 - 3. ₹1,331
 - 4. ₹1,120

Question ID : 26433086272
Status : Answered
Chosen Option : 3

Q.17 एक दुकानदार को कोई वस्तु Rs.880 में बेचने पर 10% का लाभ होता है। बिक्री में कमी के कारण, वह पिछले विक्रय मूल्य पर 25% की छूट देता है। इस बिक्री में उसका लाभ/हानि प्रतिशत ज्ञात कीजिए।

- Ans
- 1. हानि 17.5%
 - 2. लाभ 18.6 %
 - 3. लाभ 17.5%
 - 4. हानि 18.6%

Question ID : 26433066312
Status : Answered
Chosen Option : 1

Q.18 40 तक की सभी अभाज्य संख्याओं का औसत ज्ञात कीजिए। (दशमलव के दो स्थान तक उत्तर दें)

- Ans
- 1. 16.42
 - 2. 17.42
 - 3. 19.42
 - 4. 18.42

Question ID : 26433080150
Status : Answered
Chosen Option : 1

Q.19 एक सब्जी विक्रेता का 2 किलोग्राम का बाट, वास्तविक वजन से 100 ग्राम कम है। विक्रेता ने एक ग्राहक को उसी बाट का उपयोग करके Rs.44 में 2 किलोग्राम आलू बेचा। विक्रेता ने Rs.18 प्रति किलोग्राम की दर से आलू खरीदा था। आलू बेचने पर उसे कितना लाभ हुआ?

- Ans
- 1. Rs.9.8
 - 2. Rs.8.9
 - 3. Rs.9.2
 - 4. Rs.8

Question ID : 26433075060
Status : Not Attempted and Marked For Review
Chosen Option : --

Q.20 प्रकाश धारा के विपरीत दिशा में 32 km/h की चाल से और धारा के दिशा में 44 km/h की चाल से तैर सकता है। धारा की चाल क्या है?

- Ans
- 1. 7 km/h
 - 2. 4 km/h
 - 3. 5 km/h
 - 4. 6 km/h

Question ID : 26433075564
Status : Answered
Chosen Option : 4

Section : Part-D-English

Q.1 Fill in the blank in the following sentence using the ANTONYM of the word given in the brackets.

Can you _____ the UNO cards on the table? (gather)

- Ans
- 1. lift
 - 2. spread
 - 3. collect
 - 4. place

Question ID : 26433088828
Status : Not Answered
Chosen Option : --

Q.2 The sentence given below has one misspelt word. Spot the INCORRECTLY spelt word and select its correct spelling.

Her husband's death left a vacuum in her life.

- Ans
- 1. Vacuum
 - 2. Vaccum
 - 3. Vakum
 - 4. Vaccuum

Question ID : 26433073558
Status : Not Answered
Chosen Option : --

Q.3 Select the most appropriate synonym of the given word.

Hades is the god of the underworld and wealth in Greek mythology.

- Ans
- 1. sterility
 - 2. riches
 - 3. debts
 - 4. shades

Question ID : 26433084597
Status : Not Answered
Chosen Option : --

Q.4 Select the most appropriate ANTONYM of the underlined word in the given sentence.

We all must agree on the fact that life is fragile.

- Ans
- 1. weak
 - 2. violent
 - 3. infirm
 - 4. healthy

Question ID : 26433092095
Status : Not Answered
Chosen Option : --

Q.5 Select the most appropriate option to fill in the blank.

It is believed that God is _____.

- Ans
- 1. optimist
 - 2. omnivorous
 - 3. omnipresent
 - 4. pacifist

Question ID : 26433073407
Status : Not Answered
Chosen Option : --

Q.6 Select the most appropriate option that can substitute the underlined segment in the given sentence. If there is no need to substitute it, select 'No substitution'.

Sea levels have been risen all around the world threatening natural calamities like tsunamis, floods, etc.

- Ans
- 1. will rising
 - 2. have been rising
 - 3. are raised
 - 4. No substitution

Question ID : 26433088911
Status : Not Answered
Chosen Option : --

Q.7 Select the most appropriate option that can substitute the underlined segment in the given sentence.

The enthusiastic readers are eagerly waiting of the quick completion of her forthcoming novel.

- Ans
- 1. eagerly waiting in the quick
 - 2. eagerly waiting on the quick
 - 3. eagerly waiting for the quick
 - 4. eagerly waiting about the quick

Question ID : 26433010092
Status : Not Answered
Chosen Option : --

Q.8 Select the most appropriate synonym of the given word.

Proficient

- Ans
- 1. Condensed
 - 2. Vulgar
 - 3. Inadequate
 - 4. Skilful

Question ID : 26433073434
Status : Not Answered
Chosen Option : --

Q.9 The following sentence has been split into four segments. Identify the segment that contains a grammatical error.

The patient / look / a little more cheerful / this morning

- Ans
- 1. a little more cheerful
 - 2. The patient
 - 3. this morning
 - 4. look

Question ID : 26433088099
Status : Not Answered
Chosen Option : --

Q.10 Select the most appropriate meaning of the underlined idiom.

The husband promised the earth to his wife.

- Ans
- 1. Promised an impossible thing
 - 2. Promised an inexpensive thing
 - 3. Promised land
 - 4. Promised a necklace

Question ID : 26433072175
Status : Not Answered
Chosen Option : --

Q.11 Choose the appropriate meaning of the underlying idiom.

She wants to reach the target by hook or by crook.

- Ans
- 1. Very rapidly
 - 2. With all of one's (her) belongings
 - 3. By one or the other means
 - 4. Without deception

Question ID : 26433084691
Status : Not Answered
Chosen Option : --

Q.12 Select the most appropriate synonym of the word given in brackets to fill in the blank.

He had _____ (Enough) time to finish the task.

- Ans
- 1. massive
 - 2. insufficient
 - 3. perpetual
 - 4. sufficient

Question ID : 26433089077
Status : Not Answered
Chosen Option : --

Q.13 Select the most appropriate ANTONYM of the underlined word.

We must learn to negotiate with every difficult situation in life.

- Ans
- 1. Disagree
 - 2. Discuss
 - 3. Bargain
 - 4. Practice

Question ID : 26433089762
Status : Not Answered
Chosen Option : --

Q.14 Select the most appropriate ANTONYM of the given word.

Recede

- Ans
- 1. Ransack
 - 2. Argue
 - 3. Advance
 - 4. Irritate

Question ID : 26433071974
Status : Not Answered
Chosen Option : --

Q.15 Select the INCORRECTLY spelt word.

- Ans
- 1. Breakage
 - 2. Wreckage
 - 3. Drainage
 - 4. Marrige

Question ID : 26433071819
Status : Not Answered
Chosen Option : --

Comprehension:

In the following passage, some words have been deleted. Read the passage carefully and select the most appropriate option to fill in each blank.

There are over 9000 species of birds on this planet (1) _____ of which over 1360 are found in India alone. 81 species of birds (2) _____ endemic to India. Because birds are found everywhere, and in all (3) _____ zones, their sizes, shapes and wings are (4) _____ according to the needs of their habitat. For instance, eagles and hawks have massive soaring wings with primary feather that (5) _____ out and allow them to soar high in the sky.

SubQuestion No : 16

Q.16 Select the most appropriate option to fill in blank number 1.

- Ans 1. some
 2. out
 3. in
 4. across

Question ID : 26433063169

Status : Not Answered

Chosen Option : --

Comprehension:

In the following passage, some words have been deleted. Read the passage carefully and select the most appropriate option to fill in each blank.

There are over 9000 species of birds on this planet (1) _____ of which over 1360 are found in India alone. 81 species of birds (2) _____ endemic to India. Because birds are found everywhere, and in all (3) _____ zones, their sizes, shapes and wings are (4) _____ according to the needs of their habitat. For instance, eagles and hawks have massive soaring wings with primary feather that (5) _____ out and allow them to soar high in the sky.

SubQuestion No : 17

Q.17 Select the most appropriate option to fill in blank number 2.

- Ans 1. is
 2. were
 3. was
 4. are

Question ID : 26433063170

Status : Not Answered

Chosen Option : --

Comprehension:

In the following passage, some words have been deleted. Read the passage carefully and select the most appropriate option to fill in each blank.

There are over 9000 species of birds on this planet (1) _____ of which over 1360 are found in India alone. 81 species of birds (2) _____ endemic to India. Because birds are found everywhere, and in all (3) _____ zones, their sizes, shapes and wings are (4) _____ according to the needs of their habitat. For instance, eagles and hawks have massive soaring wings with primary feather that (5) _____ out and allow them to soar high in the sky.

SubQuestion No : 18

Q.18 Select the most appropriate option to fill in blank number 3.

- Ans 1. administrative
 2. climatic
 3. aerial
 4. atmospheric

Question ID : 26433063171

Status : Not Answered

Chosen Option : --

Comprehension:

In the following passage, some words have been deleted. Read the passage carefully and select the most appropriate option to fill in each blank.

There are over 9000 species of birds on this planet (1) _____ of which over 1360 are found in India alone. 81 species of birds (2) _____ endemic to India. Because birds are found everywhere, and in all (3) _____ zones, their sizes, shapes and wings are (4) _____ according to the needs of their habitat. For instance, eagles and hawks have massive soaring wings with primary feather that (5) _____ out and allow them to soar high in the sky.

SubQuestion No : 19

Q.19 Select the most appropriate option to fill in blank number 4.

- Ans 1. adapted
 2. adopted
 3. converted
 4. changed

Question ID : 26433063172

Status : Not Answered

Chosen Option : --

Comprehension:

In the following passage, some words have been deleted. Read the passage carefully and select the most appropriate option to fill in each blank.

There are over 9000 species of birds on this planet (1) _____ of which over 1360 are found in India alone. 81 species of birds (2) _____ endemic to India. Because birds are found everywhere, and in all (3) _____ zones, their sizes, shapes and wings are (4) _____ according to the needs of their habitat. For instance, eagles and hawks have massive soaring wings with primary feather that (5) _____ out and allow them to soar high in the sky.

SubQuestion No : 20

Q.20 Select the most appropriate option to fill in blank number 5.

- Ans
- 1. grow
 - 2. reach
 - 3. spread
 - 4. rise

Question ID : 26433063173

Status : Not Answered

Chosen Option : --

Section : Part-D-Hindi

Q.1 मिश्र वाक्य- 'इस गाँव का जो प्रधान है, वह अच्छा आदमी नहीं है।' उपरोक्त वाक्य के लिए निम्नलिखित विकल्पों में से कौन सा एक उचित सरल वाक्य होगा?

- Ans
- 1. प्रधान अच्छा आदमी इस गाँव का नहीं है।
 - 2. जो प्रधान है, वह बिलकुल अच्छा आदमी नहीं है।
 - 3. इस गाँव का प्रधान अच्छा आदमी नहीं है।
 - 4. गाँव का जो प्रधान वह अच्छा आदमी नहीं है।

Question ID : 26433062437

Status : Answered

Chosen Option : 3

Q.2 बार-बार बोलना ऊपर दिए गए वाक्यांश के लिए एक शब्द क्या होगा?

- Ans
- 1. प्रलाप
 - 2. अनुलाप
 - 3. विलाप
 - 4. एकालाप

Question ID : 26433070052

Status : Answered

Chosen Option : 1

Q.3 निम्नलिखित वाक्यों में से कौन सा कर्म कारक का एक उदाहरण है?

- Ans
- 1. मैंने वस्त्र धारण किया है।
 - 2. हमसे पढ़ा नहीं जाएगा।
 - 3. कर्मवीर पथ से नहीं डिगता।
 - 4. ज्वाला प्रसाद को स्नान करते दस बज गए।

Question ID : 26433085033

Status : Answered

Chosen Option : 1

Q.4 निम्नलिखित वाक्य में रेखांकित खंड के स्थान पर प्रयुक्त होने वाले सबसे उपयुक्त विकल्प का चयन कीजिए।

कोयला सूखकर राख हो गया।

- Ans
- 1. तपकर
 - 2. जलकर
 - 3. गीला होकर
 - 4. चलकर

Question ID : 26433079569

Status : Answered

Chosen Option : 1

Q.5 निम्नलिखित में से क्या 'पानी' का अर्थ नहीं होता है?

- Ans
- 1. चमक
 - 2. बिजली
 - 3. इज्जत
 - 4. जल

Question ID : 26433080943

Status : Answered

Chosen Option : 1

Q.6 विकल्पों में से क्या निम्न वाक्य के रेखांकित अंश के स्थान पर आएगा?
प्रेमचंद ने गोदान की रचना लिखी है।

- Ans
- 1. कि
 - 2. पढ़ी
 - 3. सुनी
 - 4. की

Question ID : 26433066871

Status : Answered

Chosen Option : 4

Q.7 'मुकुट में लगा कोहिनूर बहुमूल्य हीरा है।' इस वाक्य में प्रयुक्त 'बहुमूल्य' शब्द का अर्थ क्या है?

- Ans
- 1. अत्यधिक कीमत वाला
 - 2. जिसका कोई मूल्य न हो
 - 3. साधारण से कम कीमत वाला
 - 4. साधारण कीमत वाला

Question ID : 26433069734
Status : Answered
Chosen Option : 1

Q.8 निम्नलिखित वाक्य में से शुद्ध वाक्य कौन सा है?

- Ans
- 1. यह कमरा सब कमरों से बड़ा है।
 - 2. यह कमरा सब कमरों से बड़ है।
 - 3. यह कमरा सब कमर से बड़ा है।
 - 4. यह कमर सब कमरों से बड़ा है।

Question ID : 26433066843
Status : Answered
Chosen Option : 1

Q.9 निम्नलिखित विकल्पों में से 'जो भेदा न जा सके' वाक्यांश के लिए एक सार्थक शब्द क्या होगा ?

- Ans
- 1. अभेद्य
 - 2. निर्द्वन्द्व
 - 3. द्वंद्व
 - 4. प्रतिबन्ध

Question ID : 26433062473
Status : Answered
Chosen Option : 1

Q.10 निम्नलिखित में से क्रिया विशेषण शब्द नहीं है-

- Ans
- 1. पुस्तक
 - 2. पहले
 - 3. मीठा
 - 4. शायद

Question ID : 26433085046
Status : Answered
Chosen Option : 2

Q.11 निम्नलिखित वाक्य के रिक्त स्थान में सबसे उपयुक्त मुहावरा क्या होगा?
'प्रेमचंद की किताबें _____ है।'

- Ans
- 1. बाएं हाथ का खेल
 - 2. सूर्य को दिया दिखाना
 - 3. हाथों-हाथ बिक जाती
 - 4. पानी-पानी होना

Question ID : 26433066726

Status : Answered

Chosen Option : 3

Q.12 विकल्पों में दिए गए समानार्थी शब्दों में से सर्वोचित शब्द का प्रयोग करके दिए गए वाक्य के रिक्त स्थान की पूर्ति करें।
मिल मज़दूर मिल में आठ-आठ घंटे लगातार _____ करते हैं।

- Ans
- 1. श्रम
 - 2. ज़ोर
 - 3. उद्यम
 - 4. अभ्यास

Question ID : 26433062930

Status : Answered

Chosen Option : 1

Q.13 वर्तनी की दृष्टि से अशुद्ध वाक्य का चयन कीजिए-

- Ans
- 1. गली का तीसरा मकान मेरा घर है।
 - 2. ये इमारतें ऊँचाई में भिन्न नहीं हैं।
 - 3. गाड़ी के समय पर आने की सम्भावना है।
 - 4. लड़की अपनी पुस्तक पढ़ रही है।

Question ID : 26433062890

Status : Answered

Chosen Option : 4

Q.14 निम्न में से किस मुहावरे का अर्थ बुरी तरह पछताना है?

- Ans
- 1. आठ- आठ आंसू रोना
 - 2. आँखें चार होना
 - 3. कुएं में गिरना
 - 4. अंगारों पर लोटना

Question ID : 26433062815

Status : Answered

Chosen Option : 1

Q.15 गृहस्थ हो या _____ पेट की भूख तो सबको ही सताती है।
'मुनि' के पर्याय से उपरोक्त वाक्य पूर्ण करें।

- Ans
- 1. निरोगी
 - 2. भोगी
 - 3. वैरागी
 - 4. अलौकिक

Question ID : 26433084988

Status : Answered

Chosen Option : 3

Comprehension:

निम्नलिखित गद्यांश में कुछ शब्दों को हटा दिया गया है। दिए गए विकल्पों की सहायता से रिक्त स्थानों की पूर्ति कीजिए। प्रत्येक संख्या के लिए सबसे उपयुक्त विकल्प का चयन कीजिए।

महिलाएं 1. _____ की भांति शिक्षित हो रही हैं और 2. _____ में कार्य भी कर रही हैं। जीवन के तकरीबन हर क्षेत्र में चाहे वह 3. _____ हो या सामाजिक, सरकारी हो या गैर-सरकारी नौकरी, नारी हर जगह अपने 4. _____ बढ़ा चुकी है। नारी को स्वावलम्बी और 5. _____ बनने के लिए नौकरी का सहारा लेना पड़ा। इससे उनका आत्मविश्वास बढ़ता है। वह अपनी नौकरी भी पूरी जिम्मेदारी के साथ निभाती है।

SubQuestion No : 16

Q.16 रिक्त स्थान 1 की पूर्ति के लिए सबसे उपयुक्त विकल्प का चयन करें।

- Ans
- 1. पुरुषों
 - 2. छात्रों
 - 3. बालकों
 - 4. युवाओं

Question ID : 264330110933

Status : Answered

Chosen Option : 1

Comprehension:

निम्नलिखित गद्यांश में कुछ शब्दों को हटा दिया गया है। दिए गए विकल्पों की सहायता से रिक्त स्थानों की पूर्ति कीजिए। प्रत्येक संख्या के लिए सबसे उपयुक्त विकल्प का चयन कीजिए।

महिलाएं 1. _____ की भांति शिक्षित हो रही हैं और 2. _____ में कार्य भी कर रही हैं। जीवन के तकरीबन हर क्षेत्र में चाहे वह 3. _____ हो या सामाजिक, सरकारी हो या गैर-सरकारी नौकरी, नारी हर जगह अपने 4. _____ बढ़ा चुकी है। नारी को स्वावलम्बी और 5. _____ बनने के लिए नौकरी का सहारा लेना पड़ा। इससे उनका आत्मविश्वास बढ़ता है। वह अपनी नौकरी भी पूरी जिम्मेदारी के साथ निभाती है।

SubQuestion No : 17

Q.17 रिक्त स्थान 2 की पूर्ति के लिए सबसे उपयुक्त विकल्प का चयन करें।

- Ans
- 1. मंदिरों
 - 2. दुकानों
 - 3. दफ्तरों
 - 4. घर में

Question ID : 264330110934

Status : Answered

Chosen Option : 3

Comprehension:

निम्नलिखित गद्यांश में कुछ शब्दों को हटा दिया गया है। दिए गए विकल्पों की सहायता से रिक्त स्थानों की पूर्ति कीजिए। प्रत्येक संख्या के लिए सबसे उपयुक्त विकल्प का चयन कीजिए।

महिलाएं 1. _____ की भांति शिक्षित हो रही हैं और 2. _____ में कार्य भी कर रही हैं। जीवन के तकरीबन हर क्षेत्र में चाहे वह 3. _____ हो या सामाजिक, सरकारी हो या गैर-सरकारी नौकरी, नारी हर जगह अपने 4. _____ बढ़ा चुकी है। नारी को स्वावलम्बी और 5. _____ बनने के लिए नौकरी का सहारा लेना पड़ा। इससे उनका आत्मविश्वास बढ़ता है। वह अपनी नौकरी भी पूरी जिम्मेदारी के साथ निभाती है।

SubQuestion No : 18

Q.18 रिक्त स्थान 3 की पूर्ति के लिए सबसे उपयुक्त विकल्प का चयन करें।

- Ans 1. राजनीतिक
 2. व्यवसायों
 3. पर्यटन
 4. स्कूलों

Question ID : 264330110935

Status : Answered

Chosen Option : 1

Comprehension:

निम्नलिखित गद्यांश में कुछ शब्दों को हटा दिया गया है। दिए गए विकल्पों की सहायता से रिक्त स्थानों की पूर्ति कीजिए। प्रत्येक संख्या के लिए सबसे उपयुक्त विकल्प का चयन कीजिए।

महिलाएं 1. _____ की भांति शिक्षित हो रही हैं और 2. _____ में कार्य भी कर रही हैं। जीवन के तकरीबन हर क्षेत्र में चाहे वह 3. _____ हो या सामाजिक, सरकारी हो या गैर-सरकारी नौकरी, नारी हर जगह अपने 4. _____ बढ़ा चुकी है। नारी को स्वावलम्बी और 5. _____ बनने के लिए नौकरी का सहारा लेना पड़ा। इससे उनका आत्मविश्वास बढ़ता है। वह अपनी नौकरी भी पूरी जिम्मेदारी के साथ निभाती है।

SubQuestion No : 19

Q.19 रिक्त स्थान 4 की पूर्ति के लिए सबसे उपयुक्त विकल्प का चयन करें।

- Ans 1. दायरा
 2. कदम
 3. फासले
 4. हाथ

Question ID : 264330110936

Status : Answered

Chosen Option : 2

Comprehension:

निम्नलिखित गद्यांश में कुछ शब्दों को हटा दिया गया है। दिए गए विकल्पों की सहायता से रिक्त स्थानों की पूर्ति कीजिए। प्रत्येक संख्या के लिए सबसे उपयुक्त विकल्प का चयन कीजिए।

महिलाएं 1. _____ की भांति शिक्षित हो रही हैं और 2. _____ में कार्य भी कर रही हैं। जीवन के तकरीबन हर क्षेत्र में चाहे वह 3. _____ हो या सामाजिक, सरकारी हो या गैर-सरकारी नौकरी, नारी हर जगह अपने 4. _____ बढ़ा चुकी है। नारी को स्वावलम्बी और 5. _____ बनने के लिए नौकरी का सहारा लेना पड़ा। इससे उनका आत्मविश्वास बढ़ता है। वह अपनी नौकरी भी पूरी जिम्मेदारी के साथ निभाती है।

SubQuestion No : 20

Q.20 रिक्त स्थान 5 की पूर्ति के लिए सबसे उपयुक्त विकल्प का चयन करें।

- Ans
- 1. आश्रित
 - 2. पराधीन
 - 3. आत्मनिर्भर
 - 4. निराश्रय

Question ID : 264330110937

Status : Answered

Chosen Option : 3

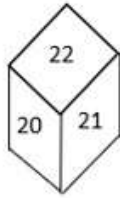
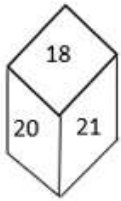
KD Job Updates

Constable GD in CAPFs SSF Rifleman GD in Assam Rifles and Sepoy in NCB Examination 2022

Roll Number	KD Job Updates
Candidate Name	KD Job Updates
Venue Name	iON Digital Zone iDZ Sector-9B Vrindawan Colony
Exam Date	24/01/2023
Exam Time	2:30 PM - 3:30 PM
Subject	Constable GD Examination 2022

Section : Part-A-General Intelligence and Reasoning

Q.1 एक ही पासे की दो अलग-अलग स्थितियों को दिखाया गया है। '18' दर्शाने वाले फलक के विपरीत फलक पर संख्या ज्ञात कीजिए।



- Ans
- 1. 20
 - 2. 22
 - 3. 19
 - 4. 24

Question ID : 26433089509

Status : Answered

Chosen Option : 2

Q.2 यदि चिह्न '+' और '-' तथा संख्या 14 और 6 का एक-दूसरे के स्थान पर उपयोग किया जाता है, तो निम्नलिखित में से कौन सा समीकरण सही होगा?

- Ans
- 1. $6 + 14 \times 2 - 18 = 20$
 - 2. $8 \times 2 + 6 - 14 = 4$
 - 3. $18 - 6 + 3 \times 14 = 30$
 - 4. $6 \times 8 + 12 - 14 = 20$

Question ID : 264330117487

Status : Answered

Chosen Option : 1

Q.3 कौन-सा अक्षर-समूह दी गई श्रृंखला में प्रश्नचिह्न (?) के स्थान पर आकर श्रृंखला को पूर्ण करेगा?
YWUS, RPNL, ?, DBZX, WUSQ

- Ans
- 1. KIGE
 - 2. KJGE
 - 3. KJHF
 - 4. KIHE

Question ID : 26433067723

Status : Answered

Chosen Option : 1

Q.4 दी गई आकृति की सही दर्पण-प्रतिबिंब का चयन करें, जब दर्पण को M N पर रखा जाता है, जैसा कि नीचे दिखाया गया है।

D 5 2 6 g N h



- Ans
- 1. h N g 2 5 D
 - 2. n N 6 2 5 D
 - 3. n N 6 2 5 D
 - 4. n N g 2 5 D

Question ID : 26433090149

Status : Answered

Chosen Option : 4

Q.5 दिए गए समीकरण को संतुलित करने के लिए विकल्पों में दी गई किन दो संख्याओं को परस्पर बदलना होगा?

$$95 \div 19 \times 112 \div (4 \times 4 + 3) + 5 = 24$$

- Ans
- 1. 112 और 24
 - 2. 112 और 95
 - 3. 4 और 5
 - 4. 4 और 3

Question ID : 26433082485

Status : Answered

Chosen Option : 3

Q.6 एक निश्चित कूट भाषा में, 'GATE' को 'TZGV' के रूप में लिखा जाता है और 'PASS' को 'KZHH' के रूप में लिखा जाता है। उसी भाषा में 'HOME' को कैसे लिखा जाएगा?

- Ans
- 1. SNVL
 - 2. SLNV
 - 3. SNLV
 - 4. VNLS

Question ID : 26433070329

Status : Answered

Chosen Option : 2

Q.7 उस विकल्प का चयन कीजिए जो तीसरे शब्द से उसी प्रकार संबंधित है जिस प्रकार दूसरा शब्द पहले शब्द से संबंधित है। (शब्दों को अर्थपूर्ण शब्दों के रूप में मानना है और उन्हें शब्द में अक्षरों/व्यंजनों/स्वरों की संख्या के आधार पर एक-दूसरे से संबंधित नहीं करना है।)
ऊन : स्वेटर :: लैटेक्स : ?

- Ans
- 1. आभूषण
 - 2. रबड़
 - 3. मोम
 - 4. धातु

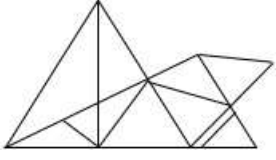
Question ID : 26433069576

Status : Answered

Chosen Option : 3

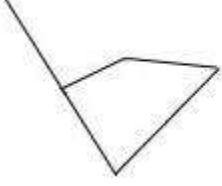
KD Job Updates

Q.8 वह विकल्प चित्र चुनिए, जो प्रस्तुत चित्र में अंतर्निहित है। (घुमाना अनुमन्य नहीं है)



Ans

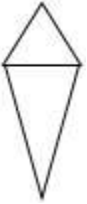
✓ 1.



✗ 2.



✗ 3.



✗ 4.



Question ID : 26433069329

Status : Answered

Chosen Option : 1

Q.9 सात लड़कियां रीता, सीता, गीता, मीता, अनीता, बिनीता और सुनीता एक वृत्ताकार मेज के परितः मेज के केंद्र की ओर मुख करके बैठी हुई हैं। रीता और गीता एक-दूसरे के ठीक बगल में नहीं बैठी हैं। सुनीता, बिनीता और मीता के बीच में बैठी है। मीता, रीता के बाईं ओर ठीक बगल में बैठी है। सीता, अनीता और गीता के बीच में बैठी है। अनीता के बाईं ओर ठीक बगल में कौन बैठा है?

Ans ✗ 1. सुनीता

✗ 2. सीता

✓ 3. रीता

✗ 4. बिनीता

Question ID : 264330114204

Status : Answered

Chosen Option : 3

Q.10 किस विकल्प में निम्नलिखित शब्दों का वह क्रम दिया गया है, जिस क्रम में वे अंग्रेजी शब्दकोश में आते हैं।
1 grape
2 grown
3 grass
4 gross
5 grind

- Ans
- 1. 1,5,4,3,2
 - 2. 1,3,5,2,4
 - 3. 1,3,5,4,2
 - 4. 1,4,3,5,2

Question ID : 26433069295

Status : Answered

Chosen Option : 3

Q.11 उस विकल्प का चयन कीजिए जो तीसरे शब्द से उसी प्रकार संबंधित है जिस प्रकार दूसरा शब्द पहले शब्द से संबंधित है। (शब्दों को अर्थपूर्ण शब्दों के रूप में मानना है और उन्हें शब्द में अक्षरों/व्यंजनों/स्वरों की संख्या के आधार पर एक-दूसरे से संबंधित नहीं करना है।)
दूरबीन : देखना :: स्पैनर (पाना) : ?

- Ans
- 1. बढ़ाना
 - 2. जकड़ना
 - 3. खोदना
 - 4. खिलाना

Question ID : 26433068055

Status : Answered

Chosen Option : 3

Q.12 तीन कथन दिए गए हैं, जिनके बाद तीन निष्कर्ष I, II और III दिए गए हैं। कथनों को सत्य मानते हुए, भले ही वे सामान्य रूप से ज्ञात तथ्यों से भिन्न प्रतीत होते हों, निर्धारित करें कि कौन-सा/से निष्कर्ष कथनों का तार्किक रूप से अनुसरण करता है/करते हैं।

कथन:

कुछ फलियां आलू हैं।

सभी गाजर आलू हैं।

सभी लौकी आलू हैं।

निष्कर्ष:

I. कुछ लौकी फलियां हैं।

II. कुछ गाजर लौकी हैं।

III. कुछ आलू लौकी हैं।

- Ans
- 1. केवल निष्कर्ष III अनुसरण करता है
 - 2. केवल निष्कर्ष I और III अनुसरण करते हैं
 - 3. सभी निष्कर्ष अनुसरण करते हैं
 - 4. केवल निष्कर्ष II और III अनुसरण करते हैं

Question ID : 26433091001

Status : Answered

Chosen Option : 1

Q.13 निम्न में से कौन सी संख्या दी गई श्रृंखला में प्रश्नचिह्न (?) के स्थान पर आएगी?
109, 122, 148, ?, 239, 304

- Ans
- 1. 189
 - 2. 179
 - 3. 198
 - 4. 187

Question ID : 26433076745
Status : Answered
Chosen Option : 4

Q.14 निम्न श्रेणी में प्रश्न-चिह्न (?) के स्थान पर कौन सी संख्या आएगी?
2, 10, 30, ?, 130

- Ans
- 1. 64
 - 2. 50
 - 3. 100
 - 4. 68

Question ID : 26433067836
Status : Answered
Chosen Option : 4

Q.15 'A + B' का अर्थ है 'B, A की माँ है'
'A # B' का अर्थ है 'B, A की बहन है'
'A @ B' का अर्थ है 'B, A का भाई है'
'A % B' का अर्थ है 'B, A की पुत्री है'
यदि A # B @ C % D + E है, तो E, A से किस प्रकार संबंधित है?

- Ans
- 1. भतीजी
 - 2. पत्नी
 - 3. भाभी
 - 4. बहन

Question ID : 26433068527
Status : Answered
Chosen Option : 3

Q.16 कौन-सा अक्षर-समूह दी गई श्रृंखला में प्रश्नचिह्न (?) के स्थान पर आकर श्रृंखला को पूर्ण करेगा?
MRFL, RYKS, ?, BMUG, GTZN

- Ans
- 1. WFPZ
 - 2. TFQY
 - 3. SEPY
 - 4. TDOX

Question ID : 26433068034
Status : Answered
Chosen Option : 1

Q.17 एक निश्चित कूट भाषा में 'MOBILE' को '18' और 'TELEVISION' को 30 के रूप में कूटबद्ध किया जाता है। उस भाषा में 'COMPUTER' को कैसे कूटबद्ध किया जाएगा?

- Ans
- 1. 20
 - 2. 22
 - 3. 24
 - 4. 23

Question ID : 26433080470

Status : Answered

Chosen Option : 3

Q.18 सात व्यक्ति P, Q, R, S, T, U और V एक दूसरे के बगल में एक सीधी पंक्ति में उत्तर की ओर मुख करके बैठे हैं (किंतु उनका इसकी क्रम में होना अनिवार्य नहीं है)। R, U के दाईं ओर ठीक बगल में बैठा है। U, P के दाईं ओर तीसरे स्थान पर बैठा है। P और T के बीच केवल चार व्यक्ति बैठे हैं। Q, V और U के ठीक बगल में बैठा है। S के ठीक बगल में कौन बैठ सकता है?

- Ans
- 1. R
 - 2. Q
 - 3. U
 - 4. T

Question ID : 26433080704

Status : Answered

Chosen Option : 4

Q.19 उस विकल्प का चयन करें, जो चौथे पद से उसी प्रकार संबंधित है, जिस प्रकार पहला पद दूसरे पद से संबंधित है और पाँचवाँ पद छठे पद से संबंधित है।
80 : 17 :: ? : 13 :: 185 : 38

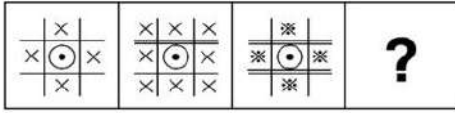
- Ans
- 1. 85
 - 2. 60
 - 3. 65
 - 4. 70

Question ID : 26433074552

Status : Answered

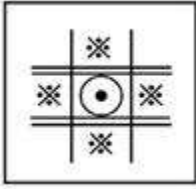
Chosen Option : 2

Q.20 उस आकृति का चयन कीजिए जो नीचे दी गई आकृति श्रृंखला में प्रश्नवाचक चिह्न (?) के स्थान पर आएगी।

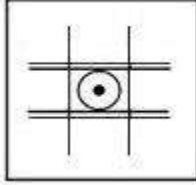


Ans

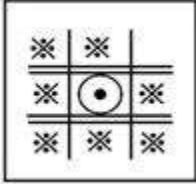
✗ 1.



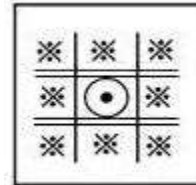
✗ 2.



✗ 3.



✓ 4.



Question ID : 26433078862

Status : Answered

Chosen Option : 4

Section : Part-B-General Knowledge and General awareness

Q.1 मार्च 2022 में, उत्तराखंड विधानसभा की पहली महिला स्पीकर के रूप में किसे निर्वाचित किया गया?

Ans ✗ 1. अभिलाषा बराक

✓ 2. रितु खंडूरी

✗ 3. शांतिश्री पंडित

✗ 4. माधवी पुरी बुच

Question ID : 264330114977

Status : Answered

Chosen Option : 1

Q.2 आर्यभट्ट अंतरिक्ष में भारत का पहला कृत्रिम उपग्रह था, जिसे वर्ष _____ में प्रक्षेपित किया गया था।

- Ans
- 1. 1925
 - 2. 1990
 - 3. 1975
 - 4. 1945

Question ID : 264330115683
Status : Answered
Chosen Option : 2

Q.3 भारत के संविधान में अनुसूचियों की संख्या कितनी है?

- Ans
- 1. 12
 - 2. 10
 - 3. 11
 - 4. 9

Question ID : 264330115609
Status : Answered
Chosen Option : 1

Q.4 भारत में मेघालय राज्य के निम्नलिखित में से किस शहर में सबसे अधिक वर्षा होती है?

- Ans
- 1. जोवाई
 - 2. शिलांग
 - 3. बाघमारा
 - 4. मौसिनराम

Question ID : 264330115976
Status : Answered
Chosen Option : 4

Q.5 बजट प्रत्येक _____ हेतु सरकार की अनुमानित प्राप्तियों और व्यय का विवरण है।

- Ans
- 1. पूंजीगत वर्ष
 - 2. वित्तीय वर्ष
 - 3. कैलेंडर वर्ष
 - 4. पिछले वर्ष

Question ID : 264330115274
Status : Answered
Chosen Option : 2

Q.6 मोहिनीअट्टम नृत्य हिंदू देवता _____ के सम्मान में महिलाओं द्वारा रहस्यमयी मोहिनी के उनके अवतार के रूप में किया जाता है।

- Ans
- 1. कृष्ण
 - 2. शिव
 - 3. राम
 - 4. विष्णु

Question ID : 264330115060
Status : Answered
Chosen Option : 1

Q.7 श्री भगवंत मान मार्च 2022 में भारत के _____ राज्य/केंद्र शासित प्रदेश के मुख्यमंत्री बने।

- Ans
- 1. उत्तराखंड
 - 2. पंजाब
 - 3. दिल्ली
 - 4. हरियाणा

Question ID : 264330114890
Status : Answered
Chosen Option : 2

Q.8 किसने भारत के सर्वोच्च न्यायालय द्वारा जून 2022 में अविश्वास प्रस्ताव के विरुद्ध शिवसेना की स्थगन याचिका को स्वीकार नहीं करने के बाद महाराष्ट्र के मुख्यमंत्री पद से त्यागपत्र दे दिया?

- Ans
- 1. उर्मिला मातोंडकर
 - 2. उद्धव ठाकरे
 - 3. देवेन्द्र फडणवीस
 - 4. एकनाथ शिंदे

Question ID : 264330114926
Status : Marked For Review
Chosen Option : 3

Q.9 निम्नलिखित में से किस कारण से खेती की 'काटो और जलाओ (slash and burn)' विधि अपनाई जाती है?

- Ans
- 1. मिट्टी की उर्वरता को कम करने के लिए
 - 2. क्षेत्र को जल्दी से खाली करने के लिए
 - 3. मिट्टी की उर्वरता को पुनःपूर्ति करने के लिए
 - 4. प्रदूषण उत्पन्न करने के लिए

Question ID : 264330115521
Status : Answered
Chosen Option : 3

Q.10 _____, सरकार द्वारा आवश्यक कुल उधार का एक संकेत है।

- Ans
- 1. राजकोषीय घाटा
 - 2. राजकोषीय शेष
 - 3. राजकोषीय अधिशेष
 - 4. राजकोषीय वृद्धि

Question ID : 264330115390

Status : **Not Attempted and Marked For Review**

Chosen Option : --

Q.11 संविधान के भाग VI में अनुच्छेद _____ राज्य विधायिका के संगठन, संरचना, अवधि, अधिकारियों, प्रक्रियाओं, विशेषाधिकारों, शक्तियों आदि से संबंधित है।

- Ans
- 1. 150 से 168
 - 2. 168 से 212
 - 3. 158 से 200
 - 4. 150 से 212

Question ID : 26433089917

Status : **Answered**

Chosen Option : 2

Q.12 पृथ्वी के वायुमंडल की पहली परत _____ है।

- Ans
- 1. क्षोभमंडल
 - 2. बाह्य वायुमंडल
 - 3. समतापमंडल
 - 4. मध्यमंडल

Question ID : 264330116094

Status : **Answered**

Chosen Option : 1

Q.13 सुजाता महापात्रा ने _____ के लिए संगीत नाटक अकादमी पुरस्कार जीता है।

- Ans
- 1. ओडिसी
 - 2. आधुनिक नृत्य
 - 3. कथक
 - 4. फ्यूजन डांस

Question ID : 264330115896

Status : **Not Attempted and Marked For Review**

Chosen Option : --

Q.14 निम्नलिखित में से किस शहर ने 2022 राष्ट्रमंडल खेलों की मेजबानी की?

- Ans
- 1. ग्लासगो
 - 2. दिल्ली
 - 3. बर्मिंघम
 - 4. गोल्ड कोस्ट

Question ID : 264330115921

Status : Answered

Chosen Option : 3

Q.15 The rate at which the Reserve Bank is ready to buy or rediscount bills of exchange or other commercial papers is called the _____ .

- Ans
- 1. Reverse Repo Rate
 - 2. Cash Reserve Ratio
 - 3. Repo Rate
 - 4. Bank Rate

Question ID : 26433054805

Status : Answered

Chosen Option : 2

Q.16 गणेश चतुर्थी, भगवान गणेश के सम्मान में मनाया जाने वाला उत्सव है, यह हिंदू माह _____ में मनाया जाता है।

- Ans
- 1. चैत्र
 - 2. फाल्गुन
 - 3. भाद्रपद
 - 4. कार्तिक

Question ID : 264330115102

Status : Answered

Chosen Option : 4

Q.17 निम्नलिखित का मिलान करें:

- a) कच्चे माल को तैयार उत्पादों में बदलना i) खाद्य विज्ञान
- b) भोजन का अध्ययन ii) खाद्य संसाधन
- c) खाद्य उत्पादों का बड़े पैमाने पर उत्पादन iii) खाद्य प्रौद्योगिकी
- d) खाद्य स्थिरता को बढ़ावा देता है iv) खाद्य निर्माण

- Ans
- 1. a-i, b-ii, c-iii, d-iv
 - 2. a-iii, b-i, c-ii, d-iv
 - 3. a-iv, b-iii, c-ii, d-i
 - 4. a-ii, b-i, c-iv, d-iii

Question ID : 264330115267

Status : Answered

Chosen Option : 2

Q.18 'शिडो' शब्द का प्रयोग जूडो में _____ के लिए किया जाता है।

- Ans
- 1. साधारण दंड
 - 2. रक्षात्मक कौशल
 - 3. अंक
 - 4. फेंकने का कौशल

Question ID : 26433092334
Status : Not Answered
Chosen Option : --

Q.19 मोठ की मस्जिद _____ शासक के शासनकाल में बनवाई गई थी।

- Ans
- 1. मुहम्मद तुगलक
 - 2. सिकंदर लोदी
 - 3. बहलोल लोदी
 - 4. फ़िरुज़ शाह तुगलक

Question ID : 26433089856
Status : Not Answered
Chosen Option : --

Q.20 निम्नलिखित में से किस तत्व का रासायनिक सूत्र NH_4Cl है?

- Ans
- 1. कार्बोनिल डाइक्लोराइड
 - 2. अमोनियम क्लोराइड
 - 3. पोटेशियम नाइट्रेट
 - 4. सिलिकॉन डाइऑक्साइड

Question ID : 264330115161
Status : Answered
Chosen Option : 2

Section : Part-C-Elementary Mathematics

Q.1 एक लंब वृत्तीय शंकु के आधार का क्षेत्रफल 154 cm^2 है और इसकी ऊंचाई 24 cm है। शंकु का वक्र पृष्ठीय क्षेत्रफल ज्ञात करें। ($\pi = 22/7$ ले)

- Ans
- 1. 520 cm^2
 - 2. 550 cm^2
 - 3. 480 cm^2
 - 4. 460 cm^2

Question ID : 26433075483
Status : Answered
Chosen Option : 2

Q.2 3 वर्ष पहले किसी शहर की जनसंख्या 84000 थी। शहरों में प्रवास के कारण, इसमें प्रति वर्ष 10 प्रतिशत की दर से कमी होती है। शहर की वर्तमान जनसंख्या कितनी है?

- Ans
- 1. 51563
 - 2. 63526
 - 3. 41526
 - 4. 61236

Question ID : 26433079881

Status : Answered

Chosen Option : 4

Q.3 एक चोर एक पुलिसकर्मी को 500 m की दूरी से देख कर 8 km /h की चाल से भागने लगता है। पुलिसकर्मी ने 11 km /h की चाल से उसका पीछा किया। पकड़े जाने से पहले चोर कितनी दूरी तक भागा था? (यदि आवश्यक हो तो दो दशमलव स्थानों तक पूर्णांकित करें)

- Ans
- 1. 4,000 मीटर
 - 2. 1,333.33 मीटर
 - 3. 1,666.67 मीटर
 - 4. 2,922 मीटर

Question ID : 26433080049

Status : Answered

Chosen Option : 3

Q.4 यदि रमेश 12 km/h के बजाय 15 km/h की चाल से चलता है, तो वह समान समय में 2 km अधिक दूरी तय करता है। रमेश द्वारा उसी समय में 12 km/h की चाल से तय की गई वास्तविक दूरी (km में) कितनी है?

- Ans
- 1. 9
 - 2. 6
 - 3. 10
 - 4. 8

Question ID : 26433064996

Status : Answered

Chosen Option : 4

Q.5 A और B एक कार्य को क्रमशः 15 दिन और 10 दिन में पूरा कर सकते हैं। A अकेले कार्य आरंभ करता है और 5 दिनों के बाद, B, A के साथ कार्य में शामिल हो जाता है। दोनों ने शेष कार्य किया। कार्य को पूरा करने के लिए कुल कितने दिन लगते हैं?

- Ans
- 1. 9 दिन
 - 2. $9\frac{2}{3}$ दिन
 - 3. $10\frac{1}{3}$ दिन
 - 4. $9\frac{1}{3}$ दिन

Question ID : 26433087392

Status : Answered

Chosen Option : 1

Q.6 17, 30, 22 और 40 में से किस संख्या को घटाया जाए ताकि प्राप्त संख्याएँ समानुपाती हो जाएँ?

Ans 1. 2

2. 4

3. 3

4. 5

Question ID : 26433073087

Status : Answered

Chosen Option : 2

Q.7 एक स्कूल में 200 विद्यार्थी हैं। यदि लड़कों की संख्या और लड़कियों की संख्या का अनुपात 9 : 1 है, तो स्कूल में लड़कों और लड़कियों की संख्या के बीच मध्यानुपात ज्ञात कीजिए।

Ans 1. 50

2. 60

3. 30

4. 40

Question ID : 26433075192

Status : Answered

Chosen Option : 3

Q.8 एक उद्यान में सप्ताह के दिनों में औसतन 30 बच्चे खेलते हैं और सप्ताहांत में औसतन 60 बच्चे खेलते हैं। शनिवार से शुरू होने वाले जून के महीने में उद्यान में प्रतिदिन खेलने वाले बच्चों की औसत संख्या ज्ञात करें।

Ans 1. 30

2. 60

3. 40

4. 45

Question ID : 264330116681

Status : Answered

Chosen Option : 3

Q.9 एक परीक्षा में, एक विद्यार्थी ने पहले पेपर में कुल 200 अंकों में से 40% अंक प्राप्त किए। यदि विद्यार्थी को कुल मिलाकर 60% अंक प्राप्त करने हैं, तो उसे दूसरे पेपर में 200 में से कितने प्रतिशत अंक प्राप्त करने चाहिए?

Ans 1. 80%

2. 85%

3. 60%

4. 75%

Question ID : 26433087349

Status : Answered

Chosen Option : 1

Q.10 एक व्यक्ति एक कंपनी के शेयर को Rs.12,000 में खरीदता है। अगर वह उस शेयर को (एक साल बाद) बेचता है तो उसे Rs.15,000 मिलते हैं। व्यक्ति द्वारा अर्जित लाभ का प्रतिशत ज्ञात कीजिए।

- Ans
- 1. 30%
 - 2. 40%
 - 3. 35%
 - 4. 25%

Question ID : 26433071307

Status : Answered

Chosen Option : 4

Q.11 एक कंपनी विभिन्न प्रकार की छूट योजनाएं प्रदान करती है।

- (i) 10% और 20% की दो क्रमिक छूट
 - (ii) 1 खरीदें 1 मुफ्त पाएं
 - (iii) 5 खरीदें 3 मुफ्त पाएं
 - (iv) 5 खरीदें 6 पाएं
- किस योजना में छूट प्रतिशत न्यूनतम है?

- Ans
- 1. (iii)
 - 2. (i)
 - 3. (ii)
 - 4. (iv)

Question ID : 26433087365

Status : Answered

Chosen Option : 4

Q.12 यदि A का 18 प्रतिशत, B के 40 प्रतिशत के बराबर है, तो A : B का अनुपात क्या है?

- Ans
- 1. 10 : 9
 - 2. 20 : 9
 - 3. 11 : 9
 - 4. 9 : 11

Question ID : 26433079855

Status : Answered

Chosen Option : 2

Q.13 दुकानदार ने 750 रुपए के अंकित मूल्य पर 50 प्रतिशत की छूट दी। विक्रय मूल्य क्या होगा ?

- Ans
- 1. 375 रुपए
 - 2. 657 रुपए
 - 3. 370 रुपए
 - 4. 250 रुपए

Question ID : 264330116713

Status : Answered

Chosen Option : 1

Q.14 वह राशि ज्ञात कीजिए जो 8% प्रतिवर्ष की दर से चक्रवृद्धि ब्याज पर वार्षिक रूप से चक्रवृद्धि होते हुए 2 वर्ष बाद ₹1,166.40 हो जाएगी।

- Ans
- 1. ₹1,100
 - 2. ₹900
 - 3. ₹1,000
 - 4. ₹1,150

Question ID : 26433087380
Status : Answered
Chosen Option : 3

Q.15 104, 78 और 260 से पूरी तरह से विभाज्य सबसे छोटी संख्या P है। यदि $P + 40 = Q^2$ है, तो Q का धनात्मक मान क्या है?

- Ans
- 1. 40
 - 2. 80
 - 3. 39
 - 4. 26

Question ID : 264330116643
Status : Answered
Chosen Option : 1

Q.16 'a' का वह न्यूनतम मान, जिसके लिए संख्या 638a435, 3 से पूर्णतः विभाज्य है, _____ है।

- Ans
- 1. 3
 - 2. 1
 - 3. 2
 - 4. 4

Question ID : 26433075874
Status : Answered
Chosen Option : 2

Q.17 एक व्यक्ति ने दो वस्तुओं को एक ही कीमत पर खरीदा और एक को 15% के लाभ पर और दूसरी को 5% की हानि पर बेच दिया। यदि दोनों विक्रय मूल्यों के बीच का अंतर ₹80 है, तो एक वस्तु का क्रय मूल्य क्या है?

- Ans
- 1. ₹500
 - 2. ₹300
 - 3. ₹600
 - 4. ₹400

Question ID : 26433080106
Status : Answered
Chosen Option : 4

Q.18 74 व्यक्तियों की औसत आय Rs.5,200 है और एक प्रबंधक की आय Rs.6,000 है, तो पूरे समूह की औसत आय कितनी है? (दो दशमलव स्थान तक मान लें)

- Ans
- 1. Rs. 6,200.16
 - 2. Rs. 5,360.86
 - 3. Rs. 5,210.66
 - 4. Rs. 5,510.66

Question ID : 26433081008
Status : Answered
Chosen Option : 3

Q.19 दो पुरुष तीन महिलाओं के बराबर काम करते हैं, और पांच महिलाएं सात लड़कों के बराबर काम करती हैं। यदि 16 पुरुष एक काम को 2 दिन में पूरा कर सकते हैं, तो दो लड़के कितने दिनों में काम पूरा करेंगे?

- Ans
- 1. 36.3
 - 2. 23.8
 - 3. 33.6
 - 4. 28.3

Question ID : 26433066179
Status : Answered
Chosen Option : 3

Q.20 एक लम्ब वृत्तीय बेलन का वक्र पृष्ठीय क्षेत्रफल 90.2 m^2 है और इसकी त्रिज्या 70 cm है, इसकी ऊंचाई (m में) ज्ञात करें। $\pi = \frac{22}{7}$ लें

- Ans
- 1. 24.5 m
 - 2. 23 m
 - 3. 21 m
 - 4. 20.5 m

Question ID : 26433076256
Status : Answered
Chosen Option : 4

Section : Part-D-English

Q.1 Select the most appropriate synonym of the underlined word.

Late morning, we took a stroll along the beach.

- Ans
- 1. scamper
 - 2. jog
 - 3. saunter
 - 4. Sprint

Question ID : 26433088837
Status : Not Answered
Chosen Option : --

Q.2 Select the option in which all the words are spelt correctly.

- Ans
- 1. My aunty arriived at my home on the eve of Diwali.
 - 2. My aunty arived at my home on the eve of Diwali.
 - 3. My aunty arrived at my home on the eve of Diwali.
 - 4. My aunty arrivved at my home on the eve of Diwali.

Question ID : 26433072285

Status : Not Answered

Chosen Option : --

Q.3 Select the most appropriate ANTONYM of the word given in brackets to fill in the blank.

The curry was very _____ (distasteful). I ate it all.

- Ans
- 1. delicious
 - 2. intoxicating
 - 3. enchanting
 - 4. refined

Question ID : 26433070459

Status : Not Answered

Chosen Option : --

Q.4 Select the most appropriate synonym for the underlined word in the given sentence.

Wordsworth wished to work on his poems in solitude.

- Ans
- 1. security
 - 2. slumber
 - 3. satiety
 - 4. seclusion

Question ID : 26433073749

Status : Not Answered

Chosen Option : --

Q.5 Select the most appropriate option that can substitute the underlined segment in the given sentence.

Rajiv helps his friends of solve real-life problems with several methods and approaches.

- Ans
- 1. helps his friends for solve
 - 2. help his friends of solve
 - 3. helps his friends in solve
 - 4. helps his friends to solve

Question ID : 264330103766

Status : Not Answered

Chosen Option : --

Q.6 Select the most appropriate ANTONYM of the given word.

Obedient

- Ans
- 1. Disciplined
 - 2. Docile
 - 3. Meekness
 - 4. Disobedient

Question ID : 26433072809
Status : Not Answered
Chosen Option : --

Q.7 Select the most appropriate synonym for the underlined word in the given sentence.

The officer was not aware of the sedulous espionage.

- Ans
- 1. sedate
 - 2. seduce
 - 3. diligent
 - 4. dangerous

Question ID : 26433072076
Status : Not Answered
Chosen Option : --

Q.8 Select the most appropriate meaning of the underlined idiom in the given sentence.

The businessman agreed to grease the palm of the bank manager for a loan.

- Ans
- 1. To remind
 - 2. To bribe
 - 3. To cooperate
 - 4. To thank

Question ID : 26433071994
Status : Not Answered
Chosen Option : --

Q.9 The following sentence has been split into four segments. Identify the segment that contains a grammatical error.

I have waiting / anxiously / for my / exam results.

- Ans
- 1. I have waiting
 - 2. for my
 - 3. exam results
 - 4. anxiously

Question ID : 264330108882
Status : Not Answered
Chosen Option : --

Q.10 Select the MISSPELT word.

- Ans 1. Allergy
 2. Fabulous
 3. Farnish
 4. Attain

Question ID : 26433086338
Status : Not Answered
Chosen Option : --

Q.11 Select the option that can be used as a one-word substitute for the given group of words.

The study of ancient writings and scriptures

- Ans 1. Geology
 2. Ornithology
 3. Palaeography
 4. Alchemy

Question ID : 26433086314
Status : Not Answered
Chosen Option : --

Q.12 Select the most appropriate option to fill in the blank.

It is surprising to see _____ (stale) apples available throughout the year.

- Ans 1. fresh
 2. musty
 3. old
 4. stuffy

Question ID : 26433060718
Status : Not Answered
Chosen Option : --

Q.13 Select the most appropriate option to fill in the blank.

We may _____ an example or two.

- Ans 1. side
 2. cite
 3. site
 4. sight

Question ID : 26433087944
Status : Not Answered
Chosen Option : --

Q.14 Select the most appropriate option to fill in the blank.
The doctor instructed the patient to _____ up and down his house as an exercise.

- Ans
- 1. wake
 - 2. chase
 - 3. work
 - 4. walk

Question ID : 26433085595
Status : Not Answered
Chosen Option : --

Q.15 Select the correct idiom to substitute the underlined word segment in the following sentence.
When the teacher asked him about the homework, he started speaking vaguely to avoid talking about it .

- Ans
- 1. writing in the bush
 - 2. searching the bird in the bush
 - 3. searching around the room
 - 4. beating around the bush

Question ID : 264330101447
Status : Not Answered
Chosen Option : --

Comprehension:

In the following passage, some words have been deleted. Read the passage carefully and select the most appropriate option to fill in each blank.

The set of relationships between people, (1) _____ their social position and roles, is referred to as society or human society. The people of a region, country, or even the (2) _____ world are referred to as a society. A society, as used in the sense of an organisation, is a group of people bound together by functional (3) _____, and may include qualities such as national or cultural identity, social solidarity, language or hierarchical organisation. Patterns of relationships between individuals who (4) _____ a common culture and institutions define human societies. A society, like other organisations or groups, permits its members to fulfil wants or wishes that they could not (5) _____ on their own.

SubQuestion No : 16

Q.16 Select the most appropriate option to fill in blank number 1.

- Ans
- 1. resisting
 - 2. including
 - 3. discounting
 - 4. developing

Question ID : 26433088515
Status : Not Answered
Chosen Option : --

Comprehension:

In the following passage, some words have been deleted. Read the passage carefully and select the most appropriate option to fill in each blank.

The set of relationships between people, (1) _____ their social position and roles, is referred to as society or human society. The people of a region, country, or even the (2) _____ world are referred to as a society. A society, as used in the sense of an organisation, is a group of people bound together by functional (3) _____, and may include qualities such as national or cultural identity, social solidarity, language or hierarchical organisation. Patterns of relationships between individuals who (4) _____ a common culture and institutions define human societies. A society, like other organisations or groups, permits its members to fulfil wants or wishes that they could not (5) _____ on their own.

SubQuestion No : 17

Q.17 Select the most appropriate option to fill in blank number 2.

- Ans 1. entire
 2. illiterate
 3. primitive
 4. absolute

Question ID : 26433088516

Status : Not Answered

Chosen Option : --

Comprehension:

In the following passage, some words have been deleted. Read the passage carefully and select the most appropriate option to fill in each blank.

The set of relationships between people, (1) _____ their social position and roles, is referred to as society or human society. The people of a region, country, or even the (2) _____ world are referred to as a society. A society, as used in the sense of an organisation, is a group of people bound together by functional (3) _____, and may include qualities such as national or cultural identity, social solidarity, language or hierarchical organisation. Patterns of relationships between individuals who (4) _____ a common culture and institutions define human societies. A society, like other organisations or groups, permits its members to fulfil wants or wishes that they could not (5) _____ on their own.

SubQuestion No : 18

Q.18 Select the most appropriate option to fill in blank number 3.

- Ans 1. mutualism
 2. qualities
 3. interdependence
 4. exchange

Question ID : 26433088517

Status : Not Answered

Chosen Option : --

Comprehension:

In the following passage, some words have been deleted. Read the passage carefully and select the most appropriate option to fill in each blank.

The set of relationships between people, (1) _____ their social position and roles, is referred to as society or human society. The people of a region, country, or even the (2) _____ world are referred to as a society. A society, as used in the sense of an organisation, is a group of people bound together by functional (3) _____, and may include qualities such as national or cultural identity, social solidarity, language or hierarchical organisation. Patterns of relationships between individuals who (4) _____ a common culture and institutions define human societies. A society, like other organisations or groups, permits its members to fulfil wants or wishes that they could not (5) _____ on their own.

SubQuestion No : 19

Q.19 Select the most appropriate option to fill in blank number 4.

- Ans
- 1. oppose
 - 2. share
 - 3. protect
 - 4. divide

Question ID : 26433088518

Status : Not Answered

Chosen Option : --

Comprehension:

In the following passage, some words have been deleted. Read the passage carefully and select the most appropriate option to fill in each blank.

The set of relationships between people, (1) _____ their social position and roles, is referred to as society or human society. The people of a region, country, or even the (2) _____ world are referred to as a society. A society, as used in the sense of an organisation, is a group of people bound together by functional (3) _____, and may include qualities such as national or cultural identity, social solidarity, language or hierarchical organisation. Patterns of relationships between individuals who (4) _____ a common culture and institutions define human societies. A society, like other organisations or groups, permits its members to fulfil wants or wishes that they could not (5) _____ on their own.

SubQuestion No : 20

Q.20 Select the most appropriate option to fill in blank number 5.

- Ans
- 1. give up
 - 2. evacuate
 - 3. accomplish
 - 4. escalate

Question ID : 26433088519

Status : Not Answered

Chosen Option : --

Q.1 निम्न में से कौन से वाक्य में कर्मकारक का गलत प्रयोग हुआ है?

- Ans
- 1. लड़का कुत्ते को मारता है।
 - 2. सीता ने चिट्ठी लिखी।
 - 3. रमेश ने गोपाल को मारा।
 - 4. कविता पत्र को लिखती है।

Question ID : 26433063033

Status : Answered

Chosen Option : 4

Q.2 निम्नलिखित में से शुद्ध वाक्य कौन-सा है?

- Ans
- 1. वह आरोग्य हो गया।
 - 2. चरखा चलाना चाहिए।
 - 3. एक-एक करके सभी के सभी मर गए।
 - 4. चरखा कातनी चाहिए।

Question ID : 26433085140

Status : Answered

Chosen Option : 1

Q.3 'आपके रहन-सहन का दर्जा ऊंचा है।' इस वाक्य में रेखांकित शब्द के स्थान पर उचित शब्द क्या होगा?

- Ans
- 1. तरीका
 - 2. भांति
 - 3. स्तर
 - 4. कुछ

Question ID : 26433062783

Status : Answered

Chosen Option : 3

Q.4 '_____ लेने की फुरसत न होना।' उपरोक्त मुहावरे में रिक्त स्थान की पूर्ति उचित शब्द द्वारा कीजिए।

- Ans
- 1. मन
 - 2. फ्रूक
 - 3. सांस
 - 4. खांसी

Question ID : 26433069692

Status : Answered

Chosen Option : 3

Q.5 उन्होंने अपने बड़े बेटे को श्रद्धांजलि दे दी।
उपरोक्त वाक्य में रेखांकित पद के स्थान पर सबसे उपयुक्त शब्द निम्न में से कौन सा होगा?

- Ans 1. तिलांजलि
 2. पुष्पांजलि
 3. गीतांजलि
 4. अंजलि

Question ID : 26433079175
Status : Answered
Chosen Option : 2

Q.6 “संजय भारतीय मूल्यों का तिरस्कार करता है।”
उक्त वाक्य में प्रयुक्त ‘तिरस्कार’ के स्थान पर उसके समानार्थी शब्द का प्रयोग निम्न में से किस वाक्य में किया गया है?

- Ans 1. संजय भारतीय मूल्यों को बदनाम करता है।
 2. संजय भारतीय मूल्यों की सराहना करता है।
 3. संजय भारतीय मूल्यों की प्रशंसा करता है।
 4. संजय भारतीय मूल्यों की उपेक्षा करता है।

Question ID : 26433085147
Status : Answered
Chosen Option : 4

Q.7 निम्न में से कौन-सा शब्द ‘राजा’ शब्द का पर्यायवाची शब्द नहीं है?

- Ans 1. स्वर्गाधिपति
 2. भूपति
 3. महीप
 4. नरपति

Question ID : 26433067078
Status : Answered
Chosen Option : 1

Q.8 “उसके द्वारा किए गए अच्छे कार्यों के कारण वह समाज में _____ है।”
उपरोक्त वाक्य में रिक्त स्थान पर निम्न में से किस शब्द का प्रयोग उपयुक्त होगा?

- Ans 1. गुमनाम
 2. विख्यात
 3. बदनाम
 4. कुख्यात

Question ID : 26433067009
Status : Answered
Chosen Option : 2

Q.9 निम्नलिखित मुहावरे के लिए उपयुक्त सार्थक शब्द क्या होगा?
चादर तान कर सोना

- Ans
- 1. शोक मनाना
 - 2. किसी की निंदा करना
 - 3. बढ़िया आचरण करना
 - 4. निश्चित हो जाना

Question ID : 26433065766

Status : Answered

Chosen Option : 4

Q.10 'दुर्योधन ने कुचक्र रचकर पांडवों को चौसर में हरा दिया।' निम्नलिखित में से कौन सा शब्द 'कुचक्र' का पर्यायवाची नहीं है?

- Ans
- 1. अभिसंधि
 - 2. दुरभिसंधि
 - 3. टोल
 - 4. साजिश

Question ID : 26433080922

Status : Answered

Chosen Option : 4

Q.11 'देश की स्थिति अच्छा नहीं है।' इस वाक्य में कौन सा शब्द अशुद्ध है?

- Ans
- 1. स्थिति
 - 2. अच्छा
 - 3. देश
 - 4. नहीं

Question ID : 26433066803

Status : Answered

Chosen Option : 2

Q.12 निम्नलिखित विकल्पों में से कौन सा एक वाक्य संयोजक क्रिया-विशेषण से सम्बन्ध रखता है?

- Ans
- 1. वह खाकर स्कूल गया।
 - 2. मैं जाकर देखूँगा।
 - 3. तुम किताब खोलकर पढ़ोगे।
 - 4. जब आप आज्ञा देंगे, तब मैं उठूँगा।

Question ID : 26433062959

Status : Answered

Chosen Option : 4

Q.13 निम्नलिखित वाक्य में किस प्रकार की त्रुटि है?
'इस प्रकार की निबंध में समाज का समग्र चित्र दिखाई देता है।'

- Ans
- 1. लिंग सम्बन्धी त्रुटि
 - 2. क्रिया सम्बन्धी त्रुटि
 - 3. अनुपयुक्त शब्द प्रयोग त्रुटि
 - 4. कारक सम्बन्धी त्रुटि

Question ID : 26433063023
Status : Answered
Chosen Option : 1

Q.14 'मेरे से कुछ ना पूछो।' इस वाक्य में रेखांकित वाक्य खंड के स्थान पर क्या आएगा?

- Ans
- 1. मैं
 - 2. मुझको
 - 3. मुझसे
 - 4. मेरे

Question ID : 26433062198
Status : Answered
Chosen Option : 3

Q.15 'अंक में स्थान पाया हुआ' वाक्यांश के लिए एक शब्द क्या होगा?

- Ans
- 1. अकिंचन
 - 2. अंकुर
 - 3. अंकस्थ
 - 4. अंडज

Question ID : 26433062157
Status : Answered
Chosen Option : 3

Comprehension:

निम्नलिखित गद्यांश में कुछ शब्दों को हटा दिया गया है। दिए गए विकल्पों की सहायता से रिक्त स्थानों की पूर्ति कीजिए। प्रत्येक संख्या के लिए सबसे उपयुक्त विकल्प का चयन कीजिए।
मनुष्य सामाजिक प्राणी है, उसका निकटतम समाज 1. _____ ही है। इसी प्रकार हमारे 2. _____ के निकटतम राष्ट्र हमारे पड़ोसी ही कहलाएँगे। यह पड़ोसी ही हैं जो हमें सुख और 3. _____ से रहने देते हैं। इसी के साथ हम अपने पड़ोसियों के साथ जैसा 4. _____ करेंगे, वे भी हमारे साथ 5. _____ ही करेंगे।

SubQuestion No : 16

Q.16 रिक्त स्थान 1 की पूर्ति के लिए सबसे उपयुक्त विकल्प का चयन कीजिए।

- Ans
- 1. हमही
 - 2. पड़ोसी
 - 3. उच्च
 - 4. संबंधी

Question ID : 264330111053
Status : Answered
Chosen Option : 2

Comprehension:

निम्नलिखित गद्यांश में कुछ शब्दों को हटा दिया गया है। दिए गए विकल्पों की सहायता से रिक्त स्थानों की पूर्ति कीजिए। प्रत्येक संख्या के लिए सबसे उपयुक्त विकल्प का चयन कीजिए।
मनुष्य सामाजिक प्राणी है, उसका निकटतम समाज 1. _____ ही है। इसी प्रकार हमारे 2. _____ के निकटतम राष्ट्र हमारे पड़ोसी ही कहलाएँगे। यह पड़ोसी ही हैं जो हमें सुख और 3. _____ से रहने देते हैं। इसी के साथ हम अपने पड़ोसियों के साथ जैसा 4. _____ करेंगे, वे भी हमारे साथ 5. _____ ही करेंगे।

SubQuestion No : 17

Q.17 रिक्त स्थान 2 की पूर्ति के लिए सबसे उपयुक्त विकल्प का चयन कीजिए।

- Ans
- 1. राष्ट्र
 - 2. व्यक्ति
 - 3. सहायक
 - 4. मैत्री

Question ID : 264330111054

Status : Answered

Chosen Option : 1

Comprehension:

निम्नलिखित गद्यांश में कुछ शब्दों को हटा दिया गया है। दिए गए विकल्पों की सहायता से रिक्त स्थानों की पूर्ति कीजिए। प्रत्येक संख्या के लिए सबसे उपयुक्त विकल्प का चयन कीजिए।
मनुष्य सामाजिक प्राणी है, उसका निकटतम समाज 1. _____ ही है। इसी प्रकार हमारे 2. _____ के निकटतम राष्ट्र हमारे पड़ोसी ही कहलाएँगे। यह पड़ोसी ही हैं जो हमें सुख और 3. _____ से रहने देते हैं। इसी के साथ हम अपने पड़ोसियों के साथ जैसा 4. _____ करेंगे, वे भी हमारे साथ 5. _____ ही करेंगे।

SubQuestion No : 18

Q.18 रिक्त स्थान 3 की पूर्ति के लिए सबसे उपयुक्त विकल्प का चयन कीजिए।

- Ans
- 1. नींद
 - 2. बातों
 - 3. दुःख
 - 4. शांति

Question ID : 264330111055

Status : Answered

Chosen Option : 4

Comprehension:

निम्नलिखित गद्यांश में कुछ शब्दों को हटा दिया गया है। दिए गए विकल्पों की सहायता से रिक्त स्थानों की पूर्ति कीजिए। प्रत्येक संख्या के लिए सबसे उपयुक्त विकल्प का चयन कीजिए।
मनुष्य सामाजिक प्राणी है, उसका निकटतम समाज 1. _____ ही है। इसी प्रकार हमारे 2. _____ के निकटतम राष्ट्र हमारे पड़ोसी ही कहलाएँगे। यह पड़ोसी ही हैं जो हमें सुख और 3. _____ से रहने देते हैं। इसी के साथ हम अपने पड़ोसियों के साथ जैसा 4. _____ करेंगे, वे भी हमारे साथ 5. _____ ही करेंगे।

SubQuestion No : 19

Q.19 रिक्त स्थान 4 की पूर्ति के लिए सबसे उपयुक्त विकल्प का चयन कीजिए।

- Ans
- 1. प्रतिकार
 - 2. सत्कार
 - 3. व्यवहार
 - 4. उपकार

Question ID : 264330111056

Status : Answered

Chosen Option : 3

Comprehension:

निम्नलिखित गद्यांश में कुछ शब्दों को हटा दिया गया है। दिए गए विकल्पों की सहायता से रिक्त स्थानों की पूर्ति कीजिए। प्रत्येक संख्या के लिए सबसे उपयुक्त विकल्प का चयन कीजिए।
मनुष्य सामाजिक प्राणी है, उसका निकटतम समाज 1. _____ ही है। इसी प्रकार हमारे 2. _____ के निकटतम राष्ट्र हमारे पड़ोसी ही कहलाएँगे। यह पड़ोसी ही हैं जो हमें सुख और 3. _____ से रहने देते हैं। इसी के साथ हम अपने पड़ोसियों के साथ जैसा 4. _____ करेंगे, वे भी हमारे साथ 5. _____ ही करेंगे।

SubQuestion No : 20

Q.20 रिक्त स्थान 5 की पूर्ति के लिए सबसे उपयुक्त विकल्प का चयन कीजिए।

- Ans
- 1. वैसा
 - 2. प्रेम
 - 3. कैसा
 - 4. जैसा

Question ID : 264330111057

Status : Answered

Chosen Option : 1

Constable GD in CAPFs SSF Rifleman GD in Assam Rifles and Sepoy in NCB Examination 2022

Roll Number	KD Job Updates
Candidate Name	KD Job Updates
Venue Name	B.S.M. College of Engineering
Exam Date	24/01/2023
Exam Time	5:15 PM - 6:15 PM
Subject	Constable GD Examination 2022

Section : Part-A-General Intelligence and Reasoning

Q.1 'A + B' का अर्थ है 'B, A का पिता है'
'A - B' का अर्थ है 'B, A की माता है'
'A # B' का अर्थ है 'B, A की बहन है'
'A & B' का अर्थ है 'B, A की पत्नी है'
यदि A # B + C & D - E है, तो E, A से किस प्रकार संबंधित है?

- Ans 1. नानी
 2. पत्नी
 3. माता
 4. मौसी

Question ID : 26433068533

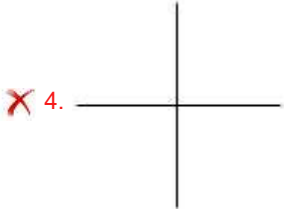
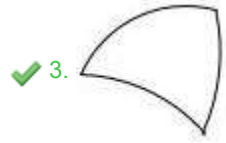
Status : Answered

Chosen Option : 1

Q.2 वह विकल्प चित्र चुनिए, जो प्रस्तुत चित्र में अंतर्निहित है। (घुमाना अनुमन्य नहीं है)



Ans



Question ID : 26433069335

Status : Answered

Chosen Option : 3

Q.3 पाँच व्यक्ति Q, R, S, T और U एक सीधी पंक्ति में उत्तर की ओर मुख करके बैठे हैं। S, T और R दोनों के ठीक बगल में है। R, Q के ठीक बगल में है। यदि Q पंक्ति के अंतिम दाएँ सिरे पर है, तो अंतिम बाएँ सिरे पर कौन बैठा है?

Ans ✗ 1. S

✗ 2. R

✓ 3. U

✗ 4. T

Question ID : 26433056046

Status : Answered

Chosen Option : 3

Q.4 निम्नलिखित में से कौन-सा अक्षर-समूह नीचे दी गई अक्षर-समूह श्रृंखला में प्रश्न-चिह्न (?) के स्थान पर आकर श्रृंखला को पूर्ण करेगा?
EE, GF, JH, OK, VO, ?

- Ans 1. FU
 2. FT
 3. GT
 4. GS

Question ID : 26433067279
Status : Answered
Chosen Option : 3

Q.5 यदि 'A' का अर्थ है 'घटाव', 'B' का अर्थ है 'भाग', 'C' का अर्थ है 'गुणा' और 'D' का अर्थ है 'जोड़', तो निम्नलिखित अभिव्यक्ति का मान क्या होगा?
28 A 80 B 16 C 5 D 21

- Ans 1. 4
 2. 34
 3. 24
 4. 14

Question ID : 264330117493
Status : Answered
Chosen Option : 3

Q.6 एक निश्चित कूट भाषा में 'AGENT' को ZHGOG और 'CHAIR' को XICJI के रूप में कूटबद्ध किया जाता है। उसी भाषा में 'FAITH' को किस प्रकार कूटबद्ध किया जाएगा?

- Ans 1. UZRGS
 2. GCJVI
 3. HCKVJ
 4. UBKUS

Question ID : 26433074516
Status : Answered
Chosen Option : 4

Q.7 किस विकल्प में निम्नलिखित शब्दों का वह क्रम दिया गया है, जिस क्रम में वे अंग्रेजी शब्दकोश में आते हैं।

- 1 Distinct
- 2 Discipline
- 3 Different
- 4 Distinguish
- 5 Disregard

- Ans 1. 3,2,5,1,4
 2. 3,4,1,2,5
 3. 2,3,5,1,4
 4. 2,5,4,1,3

Question ID : 26433069265
Status : Answered
Chosen Option : 1

Q.8 जब दर्पण को दर्शाए गए तरीके से MN पर रखा जाता है तो दिए गए पैटर्न की सही दर्पण छवि का चयन कीजिए।

W O n D E r 7 F U L

M
|
N

- Ans
- 1. M O n D E r 7 F U L
 - 2. W O n D E r 7 F U L
 - 3. 7 O n D E r 7 F U L
 - 4. W O n D E r 7 F U L

Question ID : 26433082900
Status : Answered
Chosen Option : 4

Q.9 उस विकल्प का चयन कीजिए जो पांचवें अक्षर-समूह से उसी प्रकार संबंधित है जिस प्रकार दूसरा अक्षर-समूह पहले अक्षर-समूह से संबंधित है और चौथा अक्षर-समूह तीसरे अक्षर-समूह से संबंधित है।
CAPABLE : PACELBA :: AUCTION : CUANOIT : : CAREFUL : ?

- Ans
- 1. EFULCAR
 - 2. RACELUF
 - 3. RACLUFE
 - 4. LUFERAC

Question ID : 26433069631
Status : Answered
Chosen Option : 3

Q.10 उस विकल्प का चयन करें जो तीसरे पद से उसी प्रकार संबंधित है, जिस प्रकार दूसरा पद पहले पद से और छठा पद पांचवें पद से संबंधित है।
8 : 520 :: 9 : ? :: 10 : 1010

- Ans
- 1. 756
 - 2. 690
 - 3. 738
 - 4. 752

Question ID : 26433069086
Status : Not Attempted and Marked For Review
Chosen Option : --

Q.11 निम्नलिखित में से कौन-सी संख्या दी गई श्रृंखला में प्रश्न-चिह्न (?) के स्थान पर आएगी?
13, 30, 47, ?, 81, 98, 115, 132

Ans 1. 74

2. 64

3. 62

4. 52

Question ID : 26433069043

Status : Answered

Chosen Option : 2

Q.12 छह विद्यार्थी एक वृत्ताकार मेज के परितः केंद्र की ओर मुख करके बैठे हैं। अरुण, कृष्णा और बाँबी के ठीक बगल में है। शमा, अजय और सुमन के ठीक बगल में है। अजय, बाँबी के बाईं ओर ठीक बगल में है। इनमें से कौन बाँबी के दाईं ओर ठीक बगल में है?

Ans 1. अरुण

2. कृष्णा

3. शमा

4. सुमन

Question ID : 26433069663

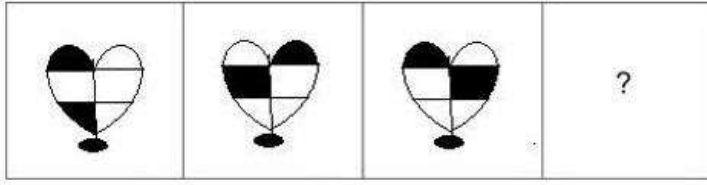
Status : Answered

Chosen Option : 1

KD Job Updates


Q.13 उस आकृति का चयन कीजिए जो नीचे दी गई श्रृंखला में प्रश्न चिह्न (?) के स्थान

पर आएगी।




Ans


✗ 1.




✗ 2.



✗ 3.



✓ 4.



KD Job Updates

Question ID : 26433070422

Status : Answered

Chosen Option : 4

Q.14 उस विकल्प का चयन करें जो पांचवें अक्षर-समूह से उसी प्रकार संबंधित है जिस प्रकार दूसरा अक्षर-समूह, पहले अक्षर-समूह से संबंधित है और चौथा अक्षर-समूह, तीसरे अक्षर-समूह से संबंधित है।
PLC : EOT :: DLG : IOH :: HCN : ?

Ans ✓ 1. PFL

✗ 2. QGM

✗ 3. QEL

✗ 4. PEM

Question ID : 26433057887

Status : Not Answered

Chosen Option : --

Q.15 तीन कथनों के बाद तीन निष्कर्ष I, II और III दिए गए हैं। कथनों को सत्य मानते हुए, भले ही वे सामान्य रूप से ज्ञात तथ्यों से भिन्न प्रतीत होते हों, निर्धारित करें कि कौन-सा/से निष्कर्ष, कथनों का तार्किक रूप से अनुसरण करता है/करते हैं।

कथन:

सभी टॉप बॉटम हैं।

सभी पुलओवर बॉटम हैं।

सभी बॉटम पैट हैं।

निष्कर्ष:

I. सभी पुलओवर पैट हैं।

II. सभी पैट टॉप हैं।

III. कुछ पैट पुलओवर हैं।

- Ans
- 1. केवल निष्कर्ष I और III अनुसरण करते हैं
 - 2. केवल निष्कर्ष II और III अनुसरण करते हैं
 - 3. केवल निष्कर्ष I और II अनुसरण करते हैं
 - 4. सभी निष्कर्ष अनुसरण करते हैं

Question ID : 26433082303

Status : Answered

Chosen Option : 1

Q.16 कौन-सा अक्षर-समूह दी गई श्रृंखला में प्रश्नचिह्न (?) के स्थान पर आकर श्रृंखला को पूर्ण करेगा?
ZDFA, CIMJ, ?, ISAB, LXHK

- Ans
- 1. EKJN
 - 2. FNST
 - 3. GLPP
 - 4. HNRT

Question ID : 26433068040

Status : Answered

Chosen Option : 2

Q.17 निम्न श्रृंखला में प्रश्न-चिह्न (?) के स्थान पर कौन सी संख्या आएगी?
4, 36, 144, ?, 900, 1764

- Ans
- 1. 500
 - 2. 200
 - 3. 300
 - 4. 400

Question ID : 26433067843

Status : Answered

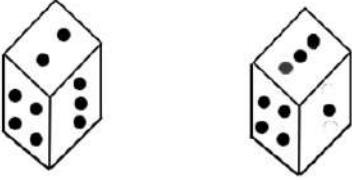
Chosen Option : 4

Q.18 एक कूट भाषा में 'ECTOPIC' को '71' लिखा जाता है और 'EDIFY' को '49' लिखा जाता है। उसी भाषा में 'ECONOMY' को कैसे लिखा जाएगा?

- Ans 1. 90
 2. 88
 3. 87
 4. 92

Question ID : 26433068935
Status : Answered
Chosen Option : 1

Q.19 एक ही पासे की दो अलग-अलग स्थितियों को दर्शाया गया है जिस पर 1 से 6 तक की संख्याएं बिंदु के रूप में निरूपित हैं। '2' दर्शाने वाले फलक के विपरीत फलक पर स्थित संख्या ज्ञात कीजिए।



- Ans 1. 4
 2. 3
 3. 1
 4. 5

Question ID : 26433085505
Status : Answered
Chosen Option : 3

Q.20 नीचे दिए गए समीकरण को गणितीय रूप से सही बनाने के लिए किन दो संख्याओं (अंकों को नहीं) को परस्पर बदलना चाहिए?
 $42 \div 3 \times 6 + 9 - 7 = 23$

- Ans 1. 3 और 6
 2. 7 और 9
 3. 6 और 7
 4. 3 और 7

Question ID : 264330114177
Status : Answered
Chosen Option : 1

Q.1 मेक्सिको के बैले फोकलोरिको के लिए कोरियोग्राफी के लिए स्वर्ण पदक किसने प्राप्त किया?

- Ans
- 1. अमाला अक्किनेनी
 - 2. जतिन गोस्वामी
 - 3. अलरमेल वल्ली
 - 4. मृणालिनी साराभाई

Question ID : 264330115853

Status : Not Answered

Chosen Option : --

Q.2 एक से अधिक कोशिकाओं से बने जीवों को आप क्या कहते हैं?

- Ans
- 1. परिकोशिकीय
 - 2. बहुकोशिकीय
 - 3. उपकोशिकीय
 - 4. एककोशिकीय

Question ID : 264330115232

Status : Answered

Chosen Option : 2

Q.3 निम्नलिखित में से कौन-सा एक प्रमुख गेहूं उत्पादक राज्य "नहीं" है?

- Ans
- 1. पंजाब
 - 2. उत्तर प्रदेश
 - 3. गोवा
 - 4. हरियाणा

Question ID : 264330115527

Status : Answered

Chosen Option : 3

Q.4 1877 में, वायसराय लिटन ने _____ को भारत की साम्राज्ञी के रूप में स्वीकार करने के लिए एक दरबार का आयोजन किया।

- Ans
- 1. महारानी एलिज़ाबेथ
 - 2. महारानी एंजेलिया
 - 3. महारानी विक्टोरिया
 - 4. महारानी एलिज़ाबेथ II

Question ID : 264330115689

Status : Answered

Chosen Option : 3

Q.5 भारत के संविधान का कौन सा भाग भारत के सर्वोच्च न्यायालय की शक्तियों और कार्यप्रणाली से संबंधित है?

- Ans
- 1. भाग VI
 - 2. भाग V
 - 3. भाग X
 - 4. भाग XI

Question ID : 26433074908
Status : Not Answered
Chosen Option : --

Q.6 निम्नलिखित में से किस राज्य में प्रियंका गांधी वाड़ा नवंबर 2022 में पहली बार "भारत जोड़ो यात्रा" में शामिल हुईं?

- Ans
- 1. केरल
 - 2. उत्तर प्रदेश
 - 3. मध्य प्रदेश
 - 4. कर्नाटक

Question ID : 264330114896
Status : Not Answered
Chosen Option : --

Q.7 आर.बी.आई. के निम्नलिखित मौद्रिक लिखतों में से कौन सा प्रकृति में गुणात्मक है?

- Ans
- 1. आरक्षित नकद अनुपात
 - 2. मोरल सुएशन
 - 3. खुला बाजार करवाई
 - 4. बैंक दर

Question ID : 26433054612
Status : Not Answered
Chosen Option : --

Q.8 केंद्रीय रिजर्व पुलिस बल की रैपिड एक्शन फोर्स का नेतृत्व करने वाली पहली महिला महानिरीक्षक का नाम क्या है?

- Ans
- 1. एनी अब्राहम
 - 2. संजुक्ता पराशर
 - 3. मेरिन जोसेफ
 - 4. सीमा धुंडिया

Question ID : 264330114983
Status : Not Answered
Chosen Option : --

Q.9 कार, कपड़े, चॉकलेट जैसी वस्तुएं, जो सीधे उपभोक्ताओं को बेची जाती हैं, _____ कहलाती हैं।

- Ans
- 1. सार्वजनिक वस्तुएं
 - 2. पूँजीगत वस्तुएं
 - 3. निजी वस्तुएं
 - 4. महंगी वस्तुएं

Question ID : 264330115280

Status : Marked For Review

Chosen Option : 2

Q.10 भारत के राष्ट्रीय खेल 2022 के 36वें संस्करण में किस राज्य ने सर्वाधिक कांस्य पदक जीते?

- Ans
- 1. हरियाणा
 - 2. महाराष्ट्र
 - 3. केरल
 - 4. उत्तर प्रदेश

Question ID : 264330115911

Status : Not Answered

Chosen Option : --

Q.11 भारत में आपातकाल की उद्घोषणा केवल _____ ही कर सकता है।

- Ans
- 1. प्रधानमंत्री
 - 2. राष्ट्रपति
 - 3. मुख्यमंत्री
 - 4. राज्यपाल

Question ID : 264330115615

Status : Answered

Chosen Option : 2

Q.12 शुभमंग लीला उत्सव निम्नलिखित में से किस राज्य से संबंधित है?

- Ans
- 1. बिहार
 - 2. असम
 - 3. मणिपुर
 - 4. झारखंड

Question ID : 264330115082

Status : Not Answered

Chosen Option : --

Q.13 वेद, चारों वेदों में सबसे छोटा है, यह हिंदू परंपरा में एक दिव्य स्थिति रखता है और धुनों और मंत्रों का संग्रह है।

- Ans
- 1. ऋग
 - 2. साम
 - 3. अथर्व
 - 4. यजुर

Question ID : 264330115442
Status : Answered
Chosen Option : 2

Q.14 गर्म मौसम की ऋतु में पश्चिम बंगाल क्षेत्र में गरज के साथ भारी वर्षा की घटना को क्या कहा जाता है?

- Ans
- 1. कालबैसाखी
 - 2. आम्र वर्षा
 - 3. निवर्तन वर्षाऋतु
 - 4. लू

Question ID : 264330115982
Status : Not Answered
Chosen Option : --

Q.15 'भामा कलपम' किस भारतीय शास्त्रीय नृत्य से संबंधित शास्त्रीय नृत्य-नाटिका है?

- Ans
- 1. कुचिपुड़ी
 - 2. सत्रीया
 - 3. ओडिसी
 - 4. मोहिनीअट्टम

Question ID : 26433069903
Status : Not Answered
Chosen Option : --

Q.16 सरकार के प्रमुख कार्यक्रम 'मेक इन इंडिया' ने 25 सितंबर, 2022 को कितने वर्ष पूरे किए?

- Ans
- 1. 9 वर्ष
 - 2. 5 वर्ष
 - 3. 4 वर्ष
 - 4. 8 वर्ष

Question ID : 264330116199
Status : Not Attempted and Marked For Review
Chosen Option : --

Q.17 एक ऐसी प्रक्रिया है जिसमें दो निकटम-फिटिंग भागों को एक फिलर सामग्री का उपयोग करके जोड़ा जाता है जिसे उसके गलनांक से ऊपर गर्म किया जाता है और केशिका क्रिया द्वारा अंतराल में वितरित किया जाता है।

- Ans
- 1. सोल्डरिंग
 - 2. कठोरीकरण
 - 3. टांकना
 - 4. वेल्डिंग

Question ID : 264330115144
Status : Answered
Chosen Option : 4

Q.18 वयस्क साक्षरता दर की गणना करते समय किस आयु और उससे अधिक के लोगों को शामिल किया जाता है?

- Ans
- 1. 15 वर्ष
 - 2. 18 वर्ष
 - 3. 12 वर्ष
 - 4. 14 वर्ष

Question ID : 264330116062
Status : Answered
Chosen Option : 2

Q.19 भारत में, _____ पंचवर्षीय योजनाओं के लिए अंतिम अनुमोदन प्राधिकरण था।

- Ans
- 1. राष्ट्रीय विकास परिषद
 - 2. राष्ट्रीय कृषि एवं विकास परिषद
 - 3. अंतर्राष्ट्रीय विकास परिषद
 - 4. राष्ट्रीय विकास केंद्र

Question ID : 264330115362
Status : Answered
Chosen Option : 1

Q.20 अर्जुन पुरस्कार की शुरुआत किस वर्ष से हुई?

- Ans
- 1. 1961
 - 2. 1970
 - 3. 1972
 - 4. 1978

Question ID : 264330116267
Status : Not Answered
Chosen Option : --

Q.1 एक दुकानदार किसी वस्तु के अंकित मूल्य पर 12% की छूट देता है। यदि वस्तु का विक्रय मूल्य Rs.13,200 है, तो वस्तु का अंकित मूल्य क्या है?

- Ans
- 1. Rs.16,000
 - 2. Rs.20,000
 - 3. Rs.15,000
 - 4. Rs.12,000

Question ID : 26433061305

Status : Answered

Chosen Option : 3

Q.2 अमृत, भगत की अपेक्षा तीन गुना अच्छा काम करता है। इसलिए अमृत एक काम को भगत की तुलना में 50 दिन कम में पूरा करने में सक्षम है। वह समय (दिनों में) ज्ञात कीजिए, जिसमें वे एक साथ मिलकर उस कार्य को पूरा कर सकते हैं।

- Ans
- 1. $19\frac{5}{4}$ दिन
 - 2. $18\frac{3}{4}$ दिन
 - 3. $17\frac{4}{3}$ दिन
 - 4. $15\frac{3}{4}$ दिन

Question ID : 26433066321

Status : Answered

Chosen Option : 2

Q.3 दो उम्मीदवारों के बीच एक चुनाव में, 75% मत प्राप्त करने वाला व्यक्ति 520 मतों के बहुमत से निर्वाचित होता है। डाले गए मतों की कुल संख्या कितनी है?

- Ans
- 1. 1212
 - 2. 1040
 - 3. 1604
 - 4. 1314

Question ID : 26433080008

Status : Answered

Chosen Option : 2

Q.4 एक दुकानदार अपने माल पर क्रय मूल्य से 20% अधिक मूल्य अंकित करता है, लेकिन अपने ग्राहकों से चालाकी करने के लिए, वह अंकित मूल्य पर 10% की छूट प्रदान करता है और एक दोषपूर्ण वजन का भी उपयोग करता है जिसका वजन 1 kg के लिए 800 g होता है। उसका कुल लाभ प्रतिशत ज्ञात कीजिए।

- Ans
- 1. 37.5%
 - 2. 32%
 - 3. 27.5%
 - 4. 35%

Question ID : 26433076410

Status : Not Attempted and Marked For Review

Chosen Option : --

Q.5 यदि $l:m=2:7$, $m:n=3:4$ और $n:k=14:5$ है, तो $l:m:n:k$ का मान क्या होगा?

- Ans
- 1. 6:21:7:10
 - 2. 6:7:14:10
 - 3. 6:21:28:10
 - 4. 6:21:14: 10

Question ID : 26433075731

Status : Answered

Chosen Option : 3

Q.6 शांत जल में एक नाव की चाल धारा की विपरीत दिशा में उसकी चाल से 50 प्रतिशत अधिक है। यदि बिंदु P से धारा की दिशा में बिंदु Q तक, नाव को पहुंचने में 20 मिनट लगते हैं, तो बिंदु Q से धारा की विपरीत दिशा में बिंदु P तक पहुंचने में उसे कितना समय लगेगा?

- Ans
- 1. 30 मिनट
 - 2. 40 मिनट
 - 3. 35 मिनट
 - 4. 45 मिनट

Question ID : 26433066178

Status : Not Answered

Chosen Option : --

Q.7 किरण ने किशोर को Rs.5,00,000 उधार दिए, जो 12% प्रतिवर्ष की दर से वार्षिक रूप से संयोजित होता है। किशोर ने काव्या को 15% प्रतिवर्ष की दर से साधारण ब्याज पर राशि उधार दी। किरण और किशोर द्वारा 3 वर्ष बाद अर्जित ब्याज में कितना अंतर है?

- Ans
- 1. Rs.24,536
 - 2. Rs.25,536
 - 3. Rs.26,536
 - 4. Rs.22,536

Question ID : 26433075323

Status : Not Answered

Chosen Option : --

Q.8 सात छात्रों द्वारा प्राप्त अंक 70, 85, 95, 86, 74, 83 और 67 हैं। उनके द्वारा प्राप्त औसत अंक क्या हैं?

Ans 1. 50

2. 80

3. 60

4. 70

Question ID : 26433075136

Status : Answered

Chosen Option : 2

Q.9 यदि एक प्राकृत संख्या को 4,5 और 6 से विभाजित करने पर प्रत्येक स्थिति में 3 शेषफल बचता है, तो तीन अंकों की सबसे छोटी प्राकृत संख्या क्या होगी?

Ans 1. 113

2. 123

3. 117

4. 129

Question ID : 26433075635

Status : Answered

Chosen Option : 2

Q.10 X ने कुल 60 रुपये में एक दर्जन पेंसिल और 200 रुपये में 20 कलम खरीदे। X द्वारा खरीदी गई स्टेशनरी का कुल औसत मूल्य ज्ञात करें।

Ans 1. 8.000 रुपए

2. 8.375 रुपए

3. 8.250 रुपए

4. 8.125 रुपए

Question ID : 264330116687

Status : Answered

Chosen Option : 4

Q.11 यदि आकाश एक कार्य को 63 दिनों में कर सकता है और दिशा उसी कार्य को 84 दिनों में कर सकती है। उन्होंने 12 दिनों तक साथ मिलकर कार्य किया और इसके बाद दिशा ने कार्य छोड़ दिया और आकाश ने शेष कार्य पूरा किया, तो कार्य को समाप्त करने के लिए आवश्यक कुल दिनों की संख्या ज्ञात करें।

Ans 1. 40 दिन

2. 66 दिन

3. 74 दिन

4. 54 दिन

Question ID : 264330116883

Status : Answered

Chosen Option : 4

Q.12 ऐसे बेलन का संपूर्ण पृष्ठीय क्षेत्रफल ज्ञात कीजिए जिसकी त्रिज्या 7 cm है और वक्र पृष्ठीय क्षेत्रफल 3520cm^2 है ($\pi = \frac{22}{7}$ का इस्तेमाल कीजिए)

- Ans
- 1. 3850 cm^2
 - 2. 3828 cm^2
 - 3. 3820 cm^2
 - 4. 2838 cm^2

Question ID : 26433083061

Status : Answered

Chosen Option : 2

Q.13 एक विक्रेता उसके पास स्थित 40 प्रतिशत संतरे बेचता है और शेष का 10 प्रतिशत फेंक देता है। अगले दिन वह शेष का 50 प्रतिशत बेचता है और शेष को फेंक देता है। विक्रेता अपने संतरे का कितने प्रतिशत फेंकता है?

- Ans
- 1. 45 प्रतिशत
 - 2. 27 प्रतिशत
 - 3. 60 प्रतिशत
 - 4. 33 प्रतिशत

Question ID : 264330116803

Status : Answered

Chosen Option : 4

Q.14 7 cm और 6 cm के विकर्णों वाले एक समचतुर्भुज के क्षेत्रफल की गणना करें।

- Ans
- 1. 21 cm^2
 - 2. 18 cm^2
 - 3. 24 cm^2
 - 4. 28 cm^2

Question ID : 26433076333

Status : Answered

Chosen Option : 1

Q.15 ₹1,900 को 4 लड़कों, 5 लड़कियों और 6 महिलाओं के बीच इस प्रकार विभाजित किया जाता है कि एक लड़के, एक लड़की और एक महिला के हिस्से का अनुपात 9 : 8 : 4 है। एक लड़की का हिस्सा क्या है?

- Ans
- 1. ₹608
 - 2. ₹760
 - 3. ₹304
 - 4. ₹152

Question ID : 26433076186

Status : Not Answered

Chosen Option : --

Q.16 एक ब्लूटूथ स्पीकर को ₹3,500 नकद या ₹1000 नकद डाउन पेमेंट एंव शेष राशि के लिए 3 समान वार्षिक किश्तों पर बेचा जाता है। यदि वार्षिक ब्याज दर 12.5% है और ब्याज का संयोजन वार्षिक रूप से किया गया है, तो किश्त की राशि (दो दशमलव स्थान तक सही) ज्ञात कीजिये।

- Ans
- 1. ₹1,149.83
 - 2. ₹1,249.83
 - 3. ₹1,049.83
 - 4. ₹1,019.83

Question ID : 26433074937

Status : Not Answered

Chosen Option : --

Q.17 एक एसी का अंकित मूल्य ₹48,000 है। दुकानदार 12% की छूट देता है और 10% लाभ अर्जित करता है। यदि कोई भी छूट ना दी जाए, तो उसका लाभ प्रतिशत ज्ञात कीजिए।

- Ans
- 1. 24 प्रतिशत
 - 2. 25 प्रतिशत
 - 3. 20 प्रतिशत
 - 4. 26 प्रतिशत

Question ID : 26433080171

Status : Answered

Chosen Option : 2

Q.18 रीता घर से 40 km/h की चाल से कार्यालय जाती है। यदि वह कार्यालय से 60 km/h की चाल से घर लौटती है, तो उसकी औसत चाल क्या होगी?

- Ans
- 1. 48 km/h
 - 2. 44 km/h
 - 3. 50 km/h
 - 4. 52 km/h

Question ID : 26433075689

Status : Answered

Chosen Option : 1

Q.19 यदि $N = (24^3 + 25^3 + 26^3 + 27^3)$ है, तो N को 102 से विभाजित करने पर _____ शेषफल प्राप्त होगा।

- Ans
- 1. 1
 - 2. 12
 - 3. 18
 - 4. 0

Question ID : 26433081537

Status : Not Answered

Chosen Option : --

Q.20 राजू एक पुराना मोबाइल Rs.3,200 में खरीदता है और Rs.800 इसकी मरम्मत पर खर्च करता है। यदि वह मोबाइल को Rs.4,800 में बेचता है, तो उसका लाभ प्रतिशत _____ होगा।

- Ans
- 1. 15%
 - 2. 25%
 - 3. 30%
 - 4. 20%

Question ID : 26433074957
Status : Answered
Chosen Option : 4

Section : Part-D-English

Q.1 Select the INCORRECTLY spelt word.

- Ans
- 1. Cherish
 - 2. Mice
 - 3. Wisdom
 - 4. Calandar

Question ID : 26433072760
Status : Not Answered
Chosen Option : --

Q.2 Select the appropriate idiom that can replace the underlined phrase in the following sentence.

He is straightforward and honest and that's why everyone appreciates him.

- Ans
- 1. an open book
 - 2. an apple of one's eyes
 - 3. a big hit
 - 4. bad blood

Question ID : 26433072517
Status : Not Answered
Chosen Option : --

Q.3 Select the most appropriate option that can substitute the underlined segment in the given sentence. If there is no need to substitute it, select 'No substitution'.

You do not have access to this content currently.

- Ans
- 1. have excess
 - 2. No substitution
 - 3. have permission
 - 4. have permit

Question ID : 26433087893
Status : Not Answered
Chosen Option : --

Q.4 Select the INCORRECTLY spelt word.

- Ans 1. Convertible
 2. Cancellation
 3. Credible
 4. Conscious

Question ID : 26433074061
Status : Not Answered
Chosen Option : --

Q.5 Select the most appropriate meaning of the given idiom.

Beside oneself

- Ans 1. Very shocked or distraught
 2. To remain silent
 3. To be happy
 4. Feeling overwhelming fear or worry

Question ID : 26433072222
Status : Not Answered
Chosen Option : --

Q.6 Select the most appropriate ANTONYM of the underlined word in the following sentence.

The accident made his face look horrible.

- Ans 1. Ugly
 2. Pleasant
 3. Frightful
 4. Surgical

Question ID : 26433072241
Status : Not Answered
Chosen Option : --

Q.7 Select the most appropriate ANTONYM of the underlined word.

Many bosses at workplace consider their subordinate on equal planes.

- Ans 1. Ordinary
 2. Superior
 3. Inferior
 4. Mediocre

Question ID : 26433073195
Status : Not Answered
Chosen Option : --

Q.8 Select the most appropriate ANTONYM of the given word.

Jovial

- Ans
- 1. Nauseating
 - 2. Cheerful
 - 3. Abrupt
 - 4. Gloomy

Question ID : 26433073802
Status : Not Answered
Chosen Option : --

Q.9 Select the most appropriate synonym of the given word.

Brave

- Ans
- 1. Daring
 - 2. Cautious
 - 3. Mild
 - 4. Timid

Question ID : 26433072531
Status : Not Answered
Chosen Option : --

Q.10 Select the most appropriate option that can substitute the underlined segment in the given sentence.

Machines can only accomplish a maximum set of tasks, as machines do not hold any thought process of their own.

- Ans
- 1. accomplish a valued set of tasks
 - 2. accomplish a difficult set of tasks
 - 3. accomplish a gist set of tasks
 - 4. accomplish a restricted set of tasks

Question ID : 26433096158
Status : Not Answered
Chosen Option : --

Q.11 Select the most appropriate option to fill in the blank.

Education, no doubt, _____ bring about the all-round development of a child.

- Ans
- 1. get rid at
 - 2. aims to
 - 3. aim at
 - 4. aims for

Question ID : 26433072724
Status : Not Answered
Chosen Option : --

Q.12 The following sentence has been split into four segments. Identify the segment that contains a grammatical error.

He said that / he had want / to read a / novel by Enid Blyton.

- Ans
- 1. novel by Enid Blyton
 - 2. he had want
 - 3. He said that
 - 4. to read a

Question ID : 26433086452
Status : Not Answered
Chosen Option : --

Q.13 Select the most appropriate synonym of the word given in brackets to fill in the blank.

Locating directions through the location of stars and constellations is a _____
(handy) way at the sea.

- Ans
- 1. simple
 - 2. nice
 - 3. near
 - 4. useful

Question ID : 26433061051
Status : Not Answered
Chosen Option : --

Q.14 Select the most appropriate ANTONYM of the underlined word.

The boy has benevolence towards animals.

- Ans
- 1. Kindness
 - 2. Cruelty
 - 3. Pardon
 - 4. Hardness

Question ID : 26433093495
Status : Not Answered
Chosen Option : --

Q.15 Select the most appropriate synonym of the given word.

Earned

- Ans
- 1. Gained
 - 2. Offered
 - 3. Accorded
 - 4. Gave

Question ID : 26433088998
Status : Not Answered
Chosen Option : --

Comprehension:

In the following passage, some words have been deleted. Read the passage carefully and select the most appropriate option to fill in each blank.

Technological innovations have led to marked improvements in (1) _____, productivity, quality, inclusion and competitiveness in extension of financial services, especially in the area of digital lending. However, there have been (2) _____ consequences on account of greater reliance on third-party lending service providers mis-selling to the unsuspecting customers, concerns over (3) _____ of data privacy, unethical business conduct and illegitimate operations. While the current share of digital lending in overall credit pie of the financial sector is not significant for it to affect financial stability, the growth momentum has (4) _____ stability implications. The larger issue here is protecting the customers from widespread unethical practices and (5) _____ orderly growth.

SubQuestion No : 16

Q.16 Select the most appropriate option to fill in blank number 1.

- Ans
- 1. inefficiency
 - 2. inadequacy
 - 3. efficiency
 - 4. adequacy

Question ID : 26433058872
Status : Not Answered
Chosen Option : --

Comprehension:

In the following passage, some words have been deleted. Read the passage carefully and select the most appropriate option to fill in each blank.

Technological innovations have led to marked improvements in (1) _____, productivity, quality, inclusion and competitiveness in extension of financial services, especially in the area of digital lending. However, there have been (2) _____ consequences on account of greater reliance on third-party lending service providers mis-selling to the unsuspecting customers, concerns over (3) _____ of data privacy, unethical business conduct and illegitimate operations. While the current share of digital lending in overall credit pie of the financial sector is not significant for it to affect financial stability, the growth momentum has (4) _____ stability implications. The larger issue here is protecting the customers from widespread unethical practices and (5) _____ orderly growth.

SubQuestion No : 17

Q.17 Select the most appropriate option to fill in blank number 2.

- Ans
- 1. expected
 - 2. planned
 - 3. intentional
 - 4. unintended

Question ID : 26433058873
Status : Not Answered
Chosen Option : --

Comprehension:

In the following passage, some words have been deleted. Read the passage carefully and select the most appropriate option to fill in each blank.

Technological innovations have led to marked improvements in (1) _____, productivity, quality, inclusion and competitiveness in extension of financial services, especially in the area of digital lending. However, there have been (2) _____ consequences on account of greater reliance on third-party lending service providers mis-selling to the unsuspecting customers, concerns over (3) _____ of data privacy, unethical business conduct and illegitimate operations. While the current share of digital lending in overall credit pie of the financial sector is not significant for it to affect financial stability, the growth momentum has (4) _____ stability implications. The larger issue here is protecting the customers from widespread unethical practices and (5) _____ orderly growth.

SubQuestion No : 18

Q.18 Select the most appropriate option to fill in blank number 3.

- Ans
- 1. spread
 - 2. closure
 - 3. agreement
 - 4. breach

Question ID : 26433058874
Status : Not Answered
Chosen Option : --

Comprehension:

In the following passage, some words have been deleted. Read the passage carefully and select the most appropriate option to fill in each blank.

Technological innovations have led to marked improvements in (1) _____, productivity, quality, inclusion and competitiveness in extension of financial services, especially in the area of digital lending. However, there have been (2) _____ consequences on account of greater reliance on third-party lending service providers mis-selling to the unsuspecting customers, concerns over (3) _____ of data privacy, unethical business conduct and illegitimate operations. While the current share of digital lending in overall credit pie of the financial sector is not significant for it to affect financial stability, the growth momentum has (4) _____ stability implications. The larger issue here is protecting the customers from widespread unethical practices and (5) _____ orderly growth.

SubQuestion No : 19

Q.19 Select the most appropriate option to fill in blank number 4.

- Ans
- 1. optional
 - 2. discretionary
 - 3. compelling
 - 4. insignificant

Question ID : 26433058875
Status : Not Answered
Chosen Option : --

Comprehension:

In the following passage, some words have been deleted. Read the passage carefully and select the most appropriate option to fill in each blank.

Technological innovations have led to marked improvements in (1) _____, productivity, quality, inclusion and competitiveness in extension of financial services, especially in the area of digital lending. However, there have been (2) _____ consequences on account of greater reliance on third-party lending service providers mis-selling to the unsuspecting customers, concerns over (3) _____ of data privacy, unethical business conduct and illegitimate operations. While the current share of digital lending in overall credit pie of the financial sector is not significant for it to affect financial stability, the growth momentum has (4) _____ stability implications. The larger issue here is protecting the customers from widespread unethical practices and (5) _____ orderly growth.

SubQuestion No : 20

Q.20 Select the most appropriate option to fill in blank number 5.

- Ans
- 1. invalidating
 - 2. repudiating
 - 3. rejecting
 - 4. ensuring

Question ID : 26433058876
Status : Not Answered
Chosen Option : --

Section : Part-D-Hindi

Q.1 'पगड़ी ओढ़कर आओ।' वाक्य में रेखांकित शब्द के स्थान पर उपयुक्त शब्द क्या होगा?

- Ans
- 1. पहनकर
 - 2. बिछाकर
 - 3. बांधकर
 - 4. डालकर

Question ID : 26433062204
Status : Answered
Chosen Option : 3

Q.2 'केवल मात्र आपके दर्शन पर्याप्त होंगे।' इस वाक्य में अनुपयुक्त शब्द है-

- Ans
- 1. होंगे
 - 2. केवल
 - 3. आपके
 - 4. दर्शन

Question ID : 26433091307
Status : Answered
Chosen Option : 2

Q.3 निम्नलिखित वाक्यांश के लिए उपयुक्त एक शब्द क्या होगा?
किसी को भय से बचाने के लिए वचन देना

- Ans
- 1. अभयदान
 - 2. सहयोग
 - 3. सलाह
 - 4. निर्भय

Question ID : 26433070066
Status : Answered
Chosen Option : 1

Q.4 'अमृत' का अर्थ निम्न में से नहीं है-

- Ans
- 1. मोती
 - 2. स्वर्ण
 - 3. जल
 - 4. पारा

Question ID : 26433074413
Status : Not Attempted and
Marked For Review
Chosen Option : --

Q.5 'वह जो पढ़ता हो' वाक्यांश के लिए सार्थक शब्द है-

- Ans
- 1. बुद्धिमान
 - 2. पढ़ाकू
 - 3. पाठक
 - 4. साक्षर

Question ID : 26433062228
Status : Answered
Chosen Option : 3

Q.6 "अभ्युदय पाठशाला जा रहा है।"
उपरोक्त वाक्य का सामान्य भविष्य काल में रूपांतरण क्या होगा?

- Ans
- 1. अभ्युदय शायद पाठशाला जाए।
 - 2. अभ्युदय पाठशाला जा रहा था।
 - 3. अभ्युदय पाठशाला चला गया होगा।
 - 4. अभ्युदय पाठशाला जाएगा।

Question ID : 26433066978
Status : Answered
Chosen Option : 4

Q.7 विकल्पों में से 'केशरी' शब्द के पर्यायवाची से निम्न वाक्य के रिक्त स्थान की पूर्ति कीजिए।
जंगल में _____ दहाड़ता है।

- Ans
- 1. गदर्भ
 - 2. अंडज
 - 3. व्याल
 - 4. शार्दूल

Question ID : 26433079182
Status : Answered
Chosen Option : 4

Q.8 'वर्तमान समय में योग अत्यंत आवश्यक है।'
उक्त वाक्य में रेखांकित शब्द के विलोम शब्द का चयन विकल्पों में से कीजिए।

- Ans
- 1. योगी
 - 2. भोग
 - 3. व्यायाम
 - 4. मनोयोग

Question ID : 26433079739
Status : Answered
Chosen Option : 2

Q.9 'ऊँची दुकान फीके पकवान' मुहावरे का सही अर्थ है-

- Ans
- 1. नाममात्र का बड़प्पन
 - 2. बड़ा मकान होना
 - 3. खाने में स्वाद न होना
 - 4. बड़ी इमारत में दुकान होना

Question ID : 26433062604
Status : Answered
Chosen Option : 1

Q.10 निम्नलिखित में से 'प्रकृति' का अर्थ इनमें से क्या नहीं होता है?

- Ans
- 1. पूज्य
 - 2. स्वामी
 - 3. माया
 - 4. स्वभाव

Question ID : 26433080945
Status : Not Attempted and
Marked For Review
Chosen Option : --

Q.11 निम्नलिखित वाक्य के किस खंड में अशुद्धि है?
आकासवानी से समाचार प्रसारित हो रहे हैं।

- Ans
- 1. आकासवानी
 - 2. समाचार
 - 3. हैं।
 - 4. प्रसारित

Question ID : 26433066751
Status : Answered
Chosen Option : 1

Q.12 निम्नलिखित मुहावरे के उचित अर्थ का चयन कीजिए-
चाँद पर थूकना

- Ans
- 1. गलत बातें कहना
 - 2. किसी का आदर करना
 - 3. ऊपर की ओर थूकना
 - 4. सम्माननीय का अनादर करना

Question ID : 26433065887
Status : Answered
Chosen Option : 4

Q.13 निम्न वाक्यांश के लिए सार्थक शब्द/सही विकल्प चुनें।
जिसके हृदय में ममता नहीं है

- Ans
- 1. निरंकुश
 - 2. निर्दय
 - 3. निर्वाचित
 - 4. निर्मम

Question ID : 26433066924
Status : Answered
Chosen Option : 4

Q.14 “राहुल ने सभी मित्रों में कहानी सुनाई।”
उपरोक्त वाक्य में कारक सम्बन्धी त्रुटि पहचानकर निम्नलिखित में से शुद्धतम वाक्य का चयन कीजिए।

- Ans
- 1. राहुल ने सभी मित्रों को कहानी सुनाई।
 - 2. राहुल ने सभी मित्रों से कहानी सुनाई।
 - 3. राहुल ने सभी मित्रों के साथ कहानी सुनाई।
 - 4. राहुल ने सभी मित्रों के पास कहानी सुनाई।

Question ID : 26433066965
Status : Answered
Chosen Option : 1

Q.15 संप्रदान कारक का बहुवचन रूप किस विकल्प में मौजूद है?

- Ans 1. हमारे लिए
 2. हमारे द्वारा
 3. हमारे पर
 4. हममें

Question ID : 26433063037

Status : Answered

Chosen Option : 1

Comprehension:

निम्नलिखित गद्यांश में कुछ शब्दों को हटा दिया गया है। दिए गए विकल्पों की सहायता से रिक्त स्थानों की पूर्ति कीजिए। प्रत्येक संख्या के लिए सबसे उपयुक्त विकल्प का चयन कीजिए।

जीवन 1. _____ से बना है। संघर्ष के समय ही सारी 2. _____ प्रकट हो उठती है। मनुष्य संघर्ष के समय जितना प्रखर, 3. _____ और कर्मठ हो उठता है, उतना और किसी अवसर पर नहीं दिखाई देता। संघर्ष का अर्थ 4. _____ नहीं है। जब मनुष्य पूरे मन से कर्म करता है, तो उसे 5. _____ मिलता है।

SubQuestion No : 16

Q.16 रिक्त स्थान 1 की पूर्ति के लिए सबसे उपयुक्त विकल्प का चयन करें।

- Ans 1. समानता
 2. बराबरी
 3. मेल
 4. संघर्ष

Question ID : 264330110873

Status : Answered

Chosen Option : 4

Comprehension:

निम्नलिखित गद्यांश में कुछ शब्दों को हटा दिया गया है। दिए गए विकल्पों की सहायता से रिक्त स्थानों की पूर्ति कीजिए। प्रत्येक संख्या के लिए सबसे उपयुक्त विकल्प का चयन कीजिए।

जीवन 1. _____ से बना है। संघर्ष के समय ही सारी 2. _____ प्रकट हो उठती है। मनुष्य संघर्ष के समय जितना प्रखर, 3. _____ और कर्मठ हो उठता है, उतना और किसी अवसर पर नहीं दिखाई देता। संघर्ष का अर्थ 4. _____ नहीं है। जब मनुष्य पूरे मन से कर्म करता है, तो उसे 5. _____ मिलता है।

SubQuestion No : 17

Q.17 रिक्त स्थान 2 की पूर्ति के लिए सबसे उपयुक्त विकल्प का चयन करें।

- Ans 1. जीवनी-शक्ति
 2. वाह्य शक्ति
 3. शारीरिक शक्ति
 4. प्रचंड शक्ति

Question ID : 264330110874

Status : Marked For Review

Chosen Option : 3

Comprehension:

निम्नलिखित गद्यांश में कुछ शब्दों को हटा दिया गया है। दिए गए विकल्पों की सहायता से रिक्त स्थानों की पूर्ति कीजिए। प्रत्येक संख्या के लिए सबसे उपयुक्त विकल्प का चयन कीजिए।
जीवन 1. _____ से बना है। संघर्ष के समय ही सारी 2. _____ प्रकट हो उठती है। मनुष्य संघर्ष के समय जितना प्रखर, 3. _____ और कर्मठ हो उठता है, उतना और किसी अवसर पर नहीं दिखाई देता। संघर्ष का अर्थ 4. _____ नहीं है। जब मनुष्य पूरे मन से कर्म करता है, तो उसे 5. _____ मिलता है।

SubQuestion No : 18

Q.18 रिक्त स्थान 3 की पूर्ति के लिए सबसे उपयुक्त विकल्प का चयन करें।

- Ans
- 1. तेजस्वी
 - 2. निस्तेज
 - 3. कांतिहीन
 - 4. कुरूप

Question ID : 264330110875

Status : Answered

Chosen Option : 1

Comprehension:

निम्नलिखित गद्यांश में कुछ शब्दों को हटा दिया गया है। दिए गए विकल्पों की सहायता से रिक्त स्थानों की पूर्ति कीजिए। प्रत्येक संख्या के लिए सबसे उपयुक्त विकल्प का चयन कीजिए।
जीवन 1. _____ से बना है। संघर्ष के समय ही सारी 2. _____ प्रकट हो उठती है। मनुष्य संघर्ष के समय जितना प्रखर, 3. _____ और कर्मठ हो उठता है, उतना और किसी अवसर पर नहीं दिखाई देता। संघर्ष का अर्थ 4. _____ नहीं है। जब मनुष्य पूरे मन से कर्म करता है, तो उसे 5. _____ मिलता है।

SubQuestion No : 19

Q.19 रिक्त स्थान 4 की पूर्ति के लिए सबसे उपयुक्त विकल्प का चयन करें।

- Ans
- 1. खेलना-कूदना
 - 2. खाना-पीना
 - 3. हँसना-रोना
 - 4. लड़ना-भिड़ना

Question ID : 264330110876

Status : Answered

Chosen Option : 4

Comprehension:

निम्नलिखित गद्यांश में कुछ शब्दों को हटा दिया गया है। दिए गए विकल्पों की सहायता से रिक्त स्थानों की पूर्ति कीजिए। प्रत्येक संख्या के लिए सबसे उपयुक्त विकल्प का चयन कीजिए।
जीवन 1. _____ से बना है। संघर्ष के समय ही सारी 2. _____ प्रकट हो उठती है। मनुष्य संघर्ष के समय जितना प्रखर, 3. _____ और कर्मठ हो उठता है, उतना और किसी अवसर पर नहीं दिखाई देता। संघर्ष का अर्थ 4. _____ नहीं है। जब मनुष्य पूरे मन से कर्म करता है, तो उसे 5. _____ मिलता है।

SubQuestion No : 20

Q.20 रिक्त स्थान 5 की पूर्ति के लिए सबसे उपयुक्त विकल्प का चयन करें।

- Ans
- 1. पीड़ा
 - 2. वेदना
 - 3. दुःख
 - 4. असीम आनंद

Question ID : 264330110877

Status : Answered

Chosen Option : 4

KD Job Updates

Constable GD in CAPFs SSF Rifleman GD in Assam Rifles and Sepoy in NCB Examination 2022

Roll Number	KD Job Updates
Candidate Name	KD Job Updates
Venue Name	iON Digital Zone iDZ Laxman Nagar
Exam Date	25/01/2023
Exam Time	9:00 AM - 10:00 AM
Subject	Constable GD Examination 2022

Section : Part-A-General Intelligence and Reasoning

Q.1 दिए गए विकल्पों में से उस अक्षर-समूह का चयन कीजिए जो निम्न श्रृंखला में प्रश्न-चिह्न (?) के स्थान पर आ सकता है।
RSXE, VNBI, ZIFM, ? , HYNU

- Ans
- 1. FCZE
 - 2. FBHL
 - 3. DWUG
 - 4. DDJQ

Question ID : 26433074743

Status : Answered

Chosen Option : 4

Q.2 छः छात्र A, B, C, D, E और F एक वृत्ताकार मेज के परितः केंद्र की ओर मुख करके बैठे हैं। D, E के दाईं ओर ठीक बगल में बैठा है और E, F के दाईं ओर ठीक बगल में बैठा है। A, D और C के ठीक बगल में बैठा है। निम्नलिखित में से कौन B के दाईं ओर दूसरे स्थान पर बैठा है?

- Ans
- 1. F
 - 2. A
 - 3. C
 - 4. E

Question ID : 26433068487

Status : Answered

Chosen Option : 4

Q.3 'A @ B' का अर्थ है कि 'A, B का पुत्र है'
'A & B' का अर्थ है कि 'A, B की माता है'
'A # B' का अर्थ है कि 'A, B की पुत्री है'
दिए गए विकल्पों में से किसका अर्थ है कि 'R, P की बहन है'?

- Ans
- 1. R @ S & Q # P
 - 2. R @ S @ Q # P
 - 3. P @ Q & R # S
 - 4. P # Q @ R # S

Question ID : 26433069658

Status : Answered

Chosen Option : 3

Q.4 एक निश्चित कूट भाषा में, BLUSH को 'EPXWK' लिखा जाता है, और SPLASH को 'VTOEVL' लिखा जाता है। उसी कूट भाषा में 'SPRITE' को किस प्रकार लिखा जाएगा?

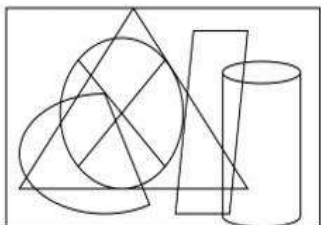
- Ans
- 1. VTUNWI
 - 2. VTUMXI
 - 3. VTUMWI
 - 4. VTUNXI

Question ID : 26433067986

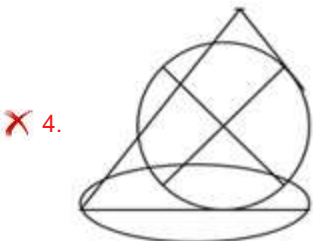
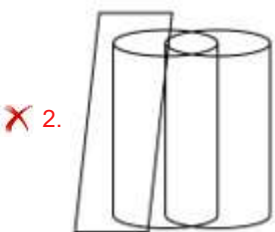
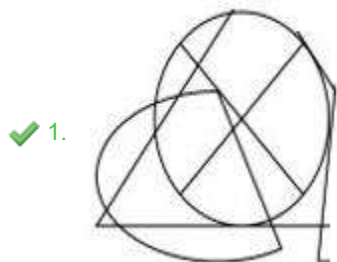
Status : Answered

Chosen Option : 3

Q.5 उस विकल्प आकृति का चयन करें जो दी गई आकृति में निहित है। (आकृति को घुमाने की अनुमति नहीं है)।



Ans



Question ID : 26433089773

Status : Answered

Chosen Option : 1

Q.6 नीचे दिए गए समीकरण को गणितीय रूप से सही बनाने के लिए किन दो चिन्हों को परस्पर बदलना चाहिए?

$$108 \div 27 \times 54 - 40 + 34 = 48$$

- Ans
- 1. - और +
 - 2. ÷ और -
 - 3. ÷ और ×
 - 4. × और -

Question ID : 264330117515

Status : Not Attempted and Marked For Review

Chosen Option : --

Q.7 इस प्रश्न में तीन कथन दिए गए हैं, जिसके बाद दो निष्कर्ष I और II दिए गए हैं। कथनों को सत्य मानते हुए, भले ही वे सर्वज्ञात तथ्यों से भिन्न प्रतीत होते हों, निर्णय कीजिए कि कौन-सा/से निष्कर्ष कथनों का तार्किक रूप से अनुसरण करता है/अनुसरण करते हैं।

कथन:

कुछ किशमिश अंगूर हैं।

सभी अंगूर सेब हैं।

सभी किशमिश फल हैं।

निष्कर्ष:

I. कुछ फल सेब हैं।

II. कुछ सेब किशमिश हैं।

- Ans
- 1. केवल निष्कर्ष I अनुसरण करता है।
 - 2. केवल निष्कर्ष II अनुसरण करता है।
 - 3. न तो निष्कर्ष I और न ही II अनुसरण करता है।
 - 4. निष्कर्ष I और II दोनों अनुसरण करते हैं।

Question ID : 26433070384

Status : Answered

Chosen Option : 4

Q.8 उस समुच्चय का चयन करें, जिसमें संख्याएँ उसी प्रकार संबंधित हैं, जिस प्रकार निम्नलिखित समुच्चयों की संख्याएँ हैं।

(नोट: संख्याओं को उसके घटक अंकों में विभाजित किए बिना, पूर्ण संख्याओं पर ही गणितीय संक्रियाएँ की जानी चाहिए। जैसे 13 - मान लीजिए 13 पर गणितीय संक्रियाएँ जैसे कि 13 में जोड़ना/घटाना/गुणा करना आदि किया जा सकता है। 13 को 1 और 3 में तोड़कर और फिर 1 और 3 पर गणितीय संक्रियाएँ करने की अनुमति नहीं है।)

(261, 54, 25)

(270, 45, 15)

- Ans
- 1. (236, 80, 56)
 - 2. (182, 87, 69)
 - 3. (298, 67, 45)
 - 4. (288, 82, 50)

Question ID : 26433076478

Status : Not Attempted and Marked For Review

Chosen Option : --

Q.9 विकल्पों में दिए गए गणितीय चिह्नों का कौन सा संयोजन निम्न समीकरण में * चिह्नों के स्थान पर क्रमिक रूप से आकर समीकरण को संतुलित करेगा?
 $19 * 5 * 5 * 220 * 2 * 10$

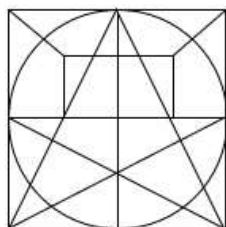
- Ans
- 1. -, +, x, ÷, =
 - 2. x, +, =, ÷, -
 - 3. +, -, =, x, ÷
 - 4. =, ÷, x, +, -

Question ID : 26433094991

Status : Answered

Chosen Option : 2

Q.10 उस विकल्प आकृति का चयन करें जो दी गई आकृति में अंतर्निहित है (घुमाने की अनुमति नहीं है)।



Ans

- 1.
- 2.
- 3.
- 4.

Question ID : 26433069480

Status : Answered

Chosen Option : 3

Q.11 निम्नलिखित में से कौन-सा पद दी गई श्रृंखला में प्रश्न-चिह्न (?) के स्थान पर आएगा?
CMHO, DPMV, ?, FVWJ, GYBQ

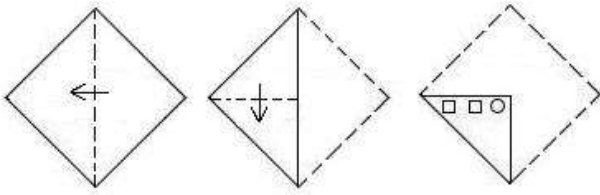
- Ans
- 1. ERSC
 - 2. ESRB
 - 3. ESRC
 - 4. ERPZ

Question ID : 26433069451

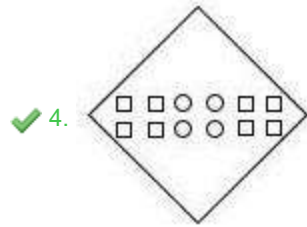
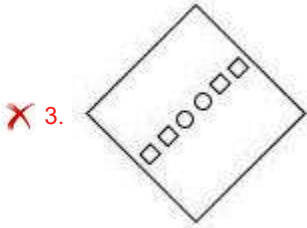
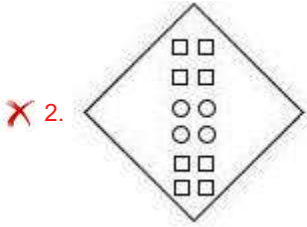
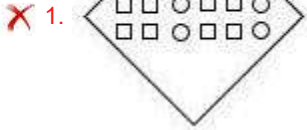
Status : Answered

Chosen Option : 3

Q.12 एक कागज को नीचे दिखाए अनुसार मोड़ा और काटा गया है। कागज की तह खुलने पर यह कैसा दिखाई देगा?



Ans



KD Job Updates

Question ID : 26433090952
 Status : Answered
 Chosen Option : 4

Q.13 उस विकल्प का चयन कीजिए जो पांचवें अक्षर-समूह से उसी प्रकार संबंधित है जिस प्रकार दूसरा अक्षर-समूह पहले अक्षर-समूह से संबंधित है और चौथा अक्षर-समूह तीसरे अक्षर-समूह से संबंधित है।
 BEAM : YVZN :: WORD : DLIW :: PLAN : ?

- Ans
- ✗ 1. LPYN
 - ✗ 2. QMBO
 - ✗ 3. TUIH
 - ✓ 4. KOZM

Question ID : 26433057480
 Status : Answered
 Chosen Option : 4

Q.14 एक निश्चित कूट भाषा में 'You Are Kind' को 'hat me ga' लिखा जाता है। 'She Is Smart' को 'fe ta nou' लिखा जाता है। 'She Is Kind' को 'fe ta ga' लिखा जाता है। उसी भाषा में 'Kind' को कैसे लिखा जाएगा?

- Ans
- 1. hat
 - 2. ga
 - 3. ta
 - 4. fe

Question ID : 26433090105

Status : Answered

Chosen Option : 2

Q.15 निम्नलिखित में से कौन सी संख्या दी गई श्रृंखला में प्रश्न चिह्न (?) के स्थान पर आएगी?
123, 88, 127, 94, 131, 100, ?, 106, 139

- Ans
- 1. 105
 - 2. 136
 - 3. 138
 - 4. 135

Question ID : 26433085639

Status : Answered

Chosen Option : 4

Q.16 निम्नलिखित में से कौन सा विकल्प नीचे दिए गए शब्दों के उस क्रम को निरूपित करता है जिस क्रम में वे अंग्रेजी शब्दकोश में आते हैं?

1. Breeze
2. Breech
3. Breather
4. Breed
5. Breathe

- Ans
- 1. 5, 2, 3, 4, 1
 - 2. 5, 3, 2, 1, 4
 - 3. 3, 5, 2, 4, 1
 - 4. 5, 3, 2, 4, 1

Question ID : 26433086966

Status : Answered

Chosen Option : 4

Q.17 छः विद्यार्थी एक वृत्ताकार मेज के परितः मेज के केंद्र की ओर मुख करके बैठे हैं। अली, नईम के दाईं ओर तीसरे स्थान पर बैठा है। सैयद, अली के बाईं ओर दूसरे स्थान पर बैठा है। सारा, अली और सैयद के ठीक बगल में बैठी है। शेनाज़, अली के दाईं ओर दूसरे स्थान पर बैठी है। डेविड, सैयद के दाईं ओर तीसरे स्थान पर बैठा है। सारा और डेविड के बीच में कौन बैठा/बैठी है?

- Ans
- 1. अली
 - 2. शेनाज़
 - 3. नईम
 - 4. सैयद

Question ID : 26433081774

Status : Answered

Chosen Option : 1

Q.18 उस विकल्प का चयन कीजिए जो तीसरे शब्द से उसी प्रकार संबंधित है जिस प्रकार दूसरा शब्द पहले शब्द से संबंधित है। (शब्दों को अर्थपूर्ण शब्दों के रूप में मानना है और उन्हें शब्द में अक्षरों/व्यंजनों/स्वरों की संख्या के आधार पर एक-दूसरे से संबंधित नहीं करना है।)
बेकर : ब्रेड :: मोची : _____

- Ans 1. जूते
 2. किताब
 3. कील
 4. बोतल

Question ID : 26433079402

Status : Answered

Chosen Option : 1

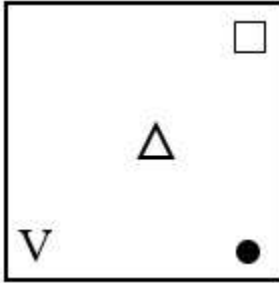
KD Job Updates

Q.19 निम्नलिखित आकृति शृंखला में प्रश्न-चिह्न (?) के स्थान पर नीचे दिए गए विकल्पों में से कौन-सी आकृति आएगी?

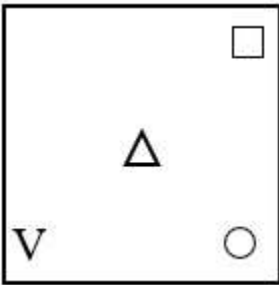
P ●	S ●	F ●	△	
M	P	S	F	?
S ●	F	△	●	□

Ans

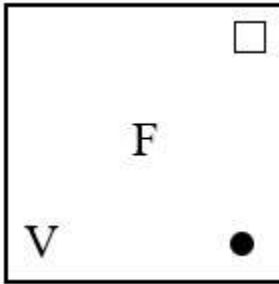
✓ 1.



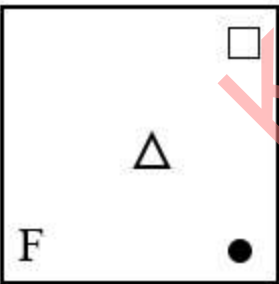
✗ 2.



✗ 3.



✗ 4.



Question ID : 26433081690

Status : Marked For Review

Chosen Option : 3

Q.20 निम्नलिखित में से कौन-सी संख्या दी गई श्रृंखला में प्रश्न-चिह्न (?) को प्रतिस्थापित करेगी?
7, 36, 66, ?, 129, 162

- Ans 1. 97
 2. 99
 3. 98
 4. 100

Question ID : 26433069387
Status : Answered
Chosen Option : 1

Section : Part-B-General Knowledge and General awareness

Q.1 निम्नलिखित में से कौन सा वृक्ष शंकुधारी वनों में पाया जाता है?

- Ans 1. कीकर
 2. चिड़
 3. सागवान
 4. सुंदरी

Question ID : 264330115549
Status : Answered
Chosen Option : 3

Q.2 सिंथेटिक उर्वरकों के अत्यधिक उपयोग से _____ होता है।

- Ans 1. ध्वनि प्रदूषण
 2. मृदा का निम्नीकरण
 3. स्वच्छ एवं शुद्ध वातावरण
 4. मृदा के जैविक पदार्थों में वृद्धि

Question ID : 264330115431
Status : Answered
Chosen Option : 2

Q.3 हैलोजन के बाह्यतम कोश में इलेक्ट्रॉनों की संख्या कितनी होती है?

- Ans 1. पांच
 2. एक
 3. दो
 4. सात

Question ID : 26433087850
Status : Marked For Review
Chosen Option : 4

Q.4 भारत की आठवीं पंचवर्षीय योजना _____ के कारण विलंबित हुई थी।

- Ans
- 1. वैश्विक निर्धनता में वृद्धि
 - 2. केंद्र में राजनीतिक अनिश्चितता
 - 3. तकनीकी की कमी
 - 4. कम कृषि उत्पादन

Question ID : 264330116117

Status : Answered

Chosen Option : 2

Q.5 स्वातंत्र्योत्तर अवधि में, 1952 में भारत के लिए पहला व्यक्तिगत ओलंपिक पदक किसने जीता था?

- Ans
- 1. खशाबा जाधव
 - 2. मिल्खा सिंह
 - 3. कपिल देव
 - 4. कर्णम मल्लेश्वरी

Question ID : 26433089919

Status : Answered

Chosen Option : 1

Q.6 _____ में रहने वाली भील जनजाति उत्तर और दक्कन के बीच पहाड़ी दरों को नियंत्रित करती थी।

- I. पश्चिमी घाट
- II. पूर्वी घाट

- Ans
- 1. केवल I
 - 2. I तथा II दोनों
 - 3. न तो I और न तो II
 - 4. केवल II

Question ID : 264330115697

Status : Marked For Review

Chosen Option : 2

Q.7 _____ योजना का उद्देश्य परलैंगिक व्यक्तियों के कल्याण हेतु व्यापक पुनर्वास के उपाय प्रदान करना है।

- Ans
- 1. सपोर्ट फॉर मार्जिनलाईज़्ड इंडीविज्युअल्स फॉर लाइव्लीहुड एंड एंटिटी
 - 2. सपोर्ट फॉर मार्जिनलाईज़्ड इंडीविज्युअल्स फॉर लाइव्लीहुड एंड एजुकेशन
 - 3. स्कीम फॉर मीडियम इंडीविज्युअल्स फॉर लाइव्लीहुड एंड एंटरप्राइज
 - 4. सपोर्ट फॉर मार्जिनलाईज़्ड इंडीविज्युअल्स फॉर लाइव्लीहुड एंड एंटरप्राइज

Question ID : 264330116164

Status : Marked For Review

Chosen Option : 4

Q.8 शीतकालीन वर्षा की कुल मात्रा को दिए गए स्थानीय नाम की पहचान कीजिए।

- Ans
- 1. महावत
 - 2. लू
 - 3. ताहिती
 - 4. काल बैसाखी

Question ID : 26433091486

Status : Answered

Chosen Option : 1

Q.9 भारत के संविधान का निम्नलिखित में से कौन-सा अनुच्छेद यह कहता है कि भारत के लिए महान्यायवादी की नियुक्ति राष्ट्रपति द्वारा की जाएगी?

- Ans
- 1. अनुच्छेद 115
 - 2. अनुच्छेद 12
 - 3. अनुच्छेद 123
 - 4. अनुच्छेद 76

Question ID : 26433086821

Status : Answered

Chosen Option : 4

Q.10 निम्नलिखित में से किस नृत्य का संबंध छत्तीसगढ़ से नहीं है?

- Ans
- 1. पंडवानी
 - 2. पंथी
 - 3. सैला
 - 4. भगोरिया

Question ID : 264330115067

Status : Answered

Chosen Option : 3

Q.11 2018 में, कुचिपुडी में संगीत नाटक अकादमी पुरस्कार किसने जीता?

- Ans
- 1. मादम्बी सुब्रमण्यम नंबूदरी
 - 2. राधा श्रीधर
 - 3. पसुमूर्ति रामलिंग शास्त्री
 - 4. मंजम्मा जोगती

Question ID : 264330115818

Status : Not Attempted and Marked For Review

Chosen Option : --

Q.12 भारतीय संविधान में कितनी अनुसूचियाँ हैं?

Ans 1. 12

2. 24

3. 39

4. 15

Question ID : 26433097126

Status : Answered

Chosen Option : 1

Q.13 फुटबॉल के खेल में, गोलपोस्ट के बीच की दूरी _____ होती है जबकि क्रॉसबार के निचले किनारे से मैदान तक की दूरी _____ होती है।

Ans 1. 2.44 m; 7.32 m

2. 8.12 m; 2.24 m

3. 7.52 m; 4.24 m

4. 7.32 m; 2.44 m

Question ID : 26433089939

Status : Answered

Chosen Option : 4

Q.14 गोची उत्सव मुख्य रूप से भारत के निम्नलिखित में से किस राज्य में मनाया जाता है?

Ans 1. असम

2. राजस्थान

3. तमिलनाडु

4. हिमाचल प्रदेश

Question ID : 26433094893

Status : Answered

Chosen Option : 4

Q.15 अगस्त 2022 में की गई घोषणा के अनुसार, यूनाइटेड किंगडम में भारत के अगले उच्चायुक्त कौन हैं?

Ans 1. यशवर्धन कुमार सिन्हा

2. विक्रम दोरईस्वामी

3. गायत्री इस्सर कुमार

4. रूचि घनश्याम

Question ID : 264330115005

Status : Not Attempted and Marked For Review

Chosen Option : --

Q.16 राष्ट्रीय कृषि और ग्रामीण विकास बैंक (NABARD) पूर्ण रूप से _____ के स्वामित्व में है।

- Ans
- 1. भारतीय स्टेट बैंक
 - 2. भारतीय रिजर्व बैंक
 - 3. भारतीय प्रतिभूति और विनियम बोर्ड
 - 4. भारत सरकार

Question ID : 264330115302

Status : Answered

Chosen Option : 2

Q.17 सूर्य के प्रकाश को पृथ्वी तक पहुँचने में लगभग _____ मिनट लगते हैं।

- Ans
- 1. 8
 - 2. 10
 - 3. 7
 - 4. 9

Question ID : 264330116027

Status : Answered

Chosen Option : 1

Q.18 निम्नलिखित चार में से तीन स्तनपायी के उदाहरण हैं, और इस प्रकार एक समूह बनाते हैं। कौन इस समूह से संबंधित नहीं है?

- Ans
- 1. पेंगुइन
 - 2. प्लैटिपस
 - 3. फ्लाइंग फॉक्स
 - 4. कंगारू

Question ID : 264330115189

Status : Answered

Chosen Option : 3

Q.19 प्राचीन काल में _____ नदी के दक्षिण के क्षेत्र को मगध के नाम से जाना जाता था।

- Ans
- 1. यमुना
 - 2. नर्मदा
 - 3. गंगा
 - 4. ताप्ती

Question ID : 26433089192

Status : Answered

Chosen Option : 1

Q.20 किस राजनीतिक नेता ने जून 2022 में त्रिपुरा में जुबराजनगर निर्वाचन क्षेत्र से उपचुनाव जीता?

- Ans
- 1. बंधु तिकी
 - 2. विष्णु सेठी
 - 3. मलिना देबनाथ
 - 4. ऋतुजा लटके

Question ID : 264330114969

Status : Not Answered

Chosen Option : --

Section : Part-C-Elementary Mathematics

Q.1 Rs. 77.50/ kg की दाल को Rs. 83.50/ kg की दाल के साथ किस अनुपात में मिलाया जाना चाहिए ताकि औसत मूल्य Rs.80/ kg वाला परिणामी मिश्रण प्राप्त हो?

- Ans
- 1. 4 : 3
 - 2. 3 : 4
 - 3. 7 : 5
 - 4. 5 : 7

Question ID : 26433080288

Status : Not Attempted and Marked For Review

Chosen Option : --

Q.2 28 वस्तुओं का विक्रय मूल्य 16 वस्तुओं के क्रय मूल्य के बराबर है। लाभ या हानि प्रतिशत (दो दशमलव स्थान तक सही) ज्ञात कीजिए।

- Ans
- 1. 42.86% का लाभ
 - 2. 44.25% का लाभ
 - 3. 42.86% की हानि
 - 4. 44.25% की हानि

Question ID : 26433074922

Status : Answered

Chosen Option : 3

Q.3 एक बैंक अर्ध-वार्षिक रूप से चक्रवृद्धि 5% प्रतिवर्ष की दर से चक्रवृद्धि ब्याज का भुगतान करता है। एक ग्राहक ने एक वर्ष में 1 जनवरी और 1 जुलाई प्रत्येक को Rs.1,600 जमा किए। वर्ष के अंत में जमा की गई राशि पर उसे मिलने वाला ब्याज है:

- Ans
- 1. Rs.132
 - 2. Rs.91
 - 3. Rs.121
 - 4. Rs.88

Question ID : 26433065288

Status : Marked For Review

Chosen Option : 1

Q.4 दो उम्मीदवारों के बीच हुए एक चुनाव में 10% मतदाताओं ने मतदान नहीं किया और 150 मतों को अवैध घोषित कर दिया गया। विजेता को अपने प्रतिद्वंदी से 350 मत अधिक मिले, इस प्रकार उसने मतदाता सूची में पंजीकृत कुल मतदाताओं के 50% मत प्राप्त किए। पराजित उम्मीदवार के कुल पंजीकृत मतों में से प्रतिशत मत _____ है। (दशमलव के बाद एक स्थान तक गणना करें)

- Ans
- 1. 28.5 प्रतिशत
 - 2. 30.2 प्रतिशत
 - 3. 32.5 प्रतिशत
 - 4. 25.6 प्रतिशत

Question ID : 26433081556

Status : Not Attempted and Marked For Review

Chosen Option : --

Q.5 A 12 दिनों में कार्य का $\frac{2}{5}$ भाग पूरा कर सकता है और B उसी कार्य का $\frac{7}{8}$ भाग 21 दिनों में पूरा कर सकता है। दिन की संख्या ज्ञात करें जिसमें A और B मिलकर उस कार्य को पूरा कर सकते हैं।

- Ans
- 1. $\frac{40}{3}$ दिन
 - 2. $\frac{14}{3}$ दिन
 - 3. $\frac{11}{3}$ दिन
 - 4. $\frac{43}{3}$ दिन

Question ID : 264330116848

Status : Answered

Chosen Option : 1

Q.6 A 4 km/h की चाल से चलता है और उसके चलने के 5 घंटे बाद, B उसके पीछे 10 km/h की चाल से साइकिल चलाता है। B प्रारंभ स्थान से कितनी दूरी पर A से मिलता है?

- Ans
- 1. 36.33 km
 - 2. 33.33 km
 - 3. 63.33 km
 - 4. 43.33 km

Question ID : 26433073036

Status : Answered

Chosen Option : 1

Q.7 एक लम्ब वृत्तीय बेलन के आधार का व्यास 56 cm है, और इसकी ऊंचाई 18 cm है। बेलन का वक्र पृष्ठीय क्षेत्रफल ज्ञात कीजिए। ($\pi = \frac{22}{7}$ लें)

- Ans
- 1. 3168 sq cm
 - 2. 3188 sq cm
 - 3. 3068 sq cm
 - 4. 2168 sq cm

Question ID : 26433074240

Status : Answered

Chosen Option : 1

Q.8 10%,15% और 20% वाली क्रमिक छूटों की एक एकल छूट _____ की है।

- Ans
- 1. 388%
 - 2. 3.88%
 - 3. 0.388%
 - 4. 38.80%

Question ID : 26433073011

Status : Answered

Chosen Option : 4

Q.9 निम्नलिखित को सटीक रूप से मापने के लिए पैमाने की अधिकतम संभव लंबाई क्या है?
15 फुट, 12 फुट 9 इंच, 16 फुट 3 इंच और 23 फुट 6 इंच

- Ans
- 1. 12 फुट 3 इंच
 - 2. 23 फुट 6 इंच
 - 3. 3 इंच
 - 4. 4 इंच

Question ID : 26433076170

Status : Not Attempted and Marked For Review

Chosen Option : --

Q.10 रमा अपने साप्ताहिक वेतन का $\frac{2}{8}$ हिस्सा किराए पर और शेष वेतन का $\frac{1}{8}$ हिस्सा भोजन पर खर्च करती है, जबकि ₹40 अन्य खर्चों के लिए रखती है। रमा का साप्ताहिक वेतन कितना है?

- Ans
- 1. ₹150
 - 2. ₹170
 - 3. ₹160
 - 4. ₹40

Question ID : 26433073125

Status : Answered

Chosen Option : 3

Q.11 यदि किसी संख्या के 40 प्रतिशत का 15 प्रतिशत 30 है, तो वह संख्या क्या है?

- Ans
- 1. 800
 - 2. 400
 - 3. 600
 - 4. 500

Question ID : 26433079851

Status : Answered

Chosen Option : 4

Q.12 एक निश्चित वार्षिक ब्याज दर पर ₹5,000 पर 2 वर्ष के वार्षिक चक्रवृद्धि आधार पर गणना किए गए चक्रवृद्धि ब्याज और साधारण ब्याज के बीच का अंतर ₹72 है। वार्षिक ब्याज दर ज्ञात करें।

- Ans
- ✓ 1. 12%
 - ✗ 2. 14%
 - ✗ 3. 11%
 - ✗ 4. 10%

Question ID : 26433082407

Status : Answered

Chosen Option : 1

Q.13 एक व्यक्ति 20 km/h की चाल से एक स्थान तक गया, और 30 km/h की चाल से वापस आया। यदि इस यात्रा में 2 घंटे का समय लगा हो, तो उस स्थान की दूरी ज्ञात कीजिए।

- Ans
- ✗ 1. 30 km
 - ✗ 2. 25 km
 - ✓ 3. 24 km
 - ✗ 4. 20 km

Question ID : 26433071333

Status : Answered

Chosen Option : 3

Q.14 एक विद्यालय के 45 विद्यार्थियों का औसत भार 55 kg है। यदि शिक्षक के भार को शामिल कर लिया जाए, तो औसत भार 300 g बढ़ जाता है। शिक्षक का भार ज्ञात कीजिए।

- Ans
- ✗ 1. 69.8 kg
 - ✗ 2. 70.8 kg
 - ✓ 3. 68.8 kg
 - ✗ 4. 67.8 kg

Question ID : 26433082957

Status : Marked For Review

Chosen Option : 2

Q.15 वीर 200 अमरूद Rs.1,800 में खरीदता है। इनमें से कुछ अमरूद सड़े हुए हैं जिन्हें फेंक दिया जाता है। वह शेष अमरूद को Rs.14 प्रत्येक की दर पर बेचता है और Rs.230 का लाभ कमा लेता है। फेंके गए अमरूदों का प्रतिशत _____ है।

- Ans
- ✗ 1. 28.5%
 - ✗ 2. 30.8%
 - ✗ 3. 14.5%
 - ✓ 4. 27.5%

Question ID : 26433074921

Status : Not Attempted and Marked For Review

Chosen Option : --

Q.16 एक कार्य को समाप्त करने में राज, सुजय से दोगुना तथा रौनक से तीन गुना समय लेता है। यदि सुजय अकेले उस कार्य को 6 दिन में पूरा कर सकता है, तो तीनों मिलकर उसी कार्य को कितने दिनों में पूरा कर सकते हैं?

- Ans 1. 2 दिन
 2. 1 दिन
 3. 4 दिन
 4. 3 दिन

Question ID : 26433080135
Status : Answered
Chosen Option : 1

Q.17 यदि $a : b = 5 : 1$ है तो $3a + 4b : 3a - 4b$ का मान क्या है?

- Ans 1. 13 : 21
 2. 14 : 11
 3. 19 : 11
 4. 11 : 12

Question ID : 26433079871
Status : Answered
Chosen Option : 3

Q.18 15 प्रतिशत और 6 प्रतिशत क्रमिक छूट देने पर, एक वस्तु का विक्रय मूल्य रु. 9588 है, तो अंकित मूल्य है:

- Ans 1. 10800 रुपए
 2. 12000 रुपए
 3. 11200 रुपए
 4. 10000 रुपए

Question ID : 264330116733
Status : Answered
Chosen Option : 2

Q.19 दो संख्याएँ 5:9 के अनुपात में हैं और उनका लघुत्तम समापवर्त्य 405 है। संख्याएँ ज्ञात कीजिए।

- Ans 1. 45 और 81
 2. 65 और 95
 3. 45 और 71
 4. 55 और 99

Question ID : 26433082590
Status : Answered
Chosen Option : 1

Q.20 एक मकबरे के 3.5 m व्यास वाले अर्धगोलाकार गुंबद को पेंट किया जाना है। यदि पेंटिंग की लागत 20 पैसे प्रति cm^2 है, तो गुंबद को अंदर से पेंट करने की लागत (₹ में) कितनी होगी? $\pi = \frac{22}{7}$ लें

- Ans
- 1. ₹25,000
 - 2. ₹35,000
 - 3. ₹28,500
 - 4. ₹38,500

Question ID : 26433076251
Status : Answered
Chosen Option : 3

Section : Part-D-English

Q.1 Select the most appropriate synonym of the word given below to fill in the blank in the following sentence.

Toying

My cat, Mili loves _____ with the toy mouse.

- Ans
- 1. licking
 - 2. dancing
 - 3. going
 - 4. playing

Question ID : 26433084779
Status : Not Answered
Chosen Option : --

Q.2 Select the most appropriate option to substitute the underlined segment in the given sentence to make it a meaningful sentence. If no substitution is required, select 'No substitution'.

The COVID-19 pandemic pose innumerable challenges to our education system, and engineering education was no exception.

- Ans
- 1. No substitution
 - 2. posed innumerable challenges to our education system, and engineering education is not a exception.
 - 3. posed innumerable challenges to our education system, and engineering education was no exception.
 - 4. have been posing innumerable challenges to our education system, and engineering education is not any exception.

Question ID : 26433092048
Status : Not Answered
Chosen Option : --

Q.3 Select the most appropriate meaning of the given idiom.

Risk life and limb

- Ans 1. In danger of death or serious injury
 2. Making unnecessary fuss
 3. Something that happened unexpectedly
 4. Seriously ill

Question ID : 26433072687
Status : Not Answered
Chosen Option : --

Q.4 Select the most appropriate synonym of the underlined word in the following sentence.

He distracted him while his partner burgled his shop.

- Ans 1. Burnt
 2. Looted
 3. Arrived
 4. Rooted

Question ID : 26433072352
Status : Not Answered
Chosen Option : --

Q.5 Select the option that can be used as a one-word substitute for the underlined group of words.

I studied a book on the study of stars.

- Ans 1. Astrophysics
 2. Geology
 3. Astronomy
 4. Meteorology

Question ID : 26433088612
Status : Not Answered
Chosen Option : --

Q.6 Select the correct pair of words for the blanks in the given sentence.

_____ are the prime resource of a country and a tea is served in a _____.

- Ans 1. cattle; cattle
 2. kettle; cattle
 3. cattle; kettle
 4. kettle; kettle

Question ID : 26433060546
Status : Not Answered
Chosen Option : --

Q.7 Select the most appropriate synonym of the given word.

Mean

- Ans
- 1. Mode
 - 2. Greedy
 - 3. Wise
 - 4. Unconscious

Question ID : 26433088533
Status : Not Answered
Chosen Option : --

Q.8 Identify the correctly spelt sentence.

- Ans
- 1. The collector is the district magistrate in adminestration.
 - 2. The collector is the district magistrate in addministration.
 - 3. The collector is the district magistrate in admiinistration.
 - 4. The collector is the district magistrate in administration.

Question ID : 26433072834
Status : Not Answered
Chosen Option : --

Q.9 Select the most appropriate meaning of the idiom in bold in the given sentence.

I am going to take a leaf out of your book and start packing my own lunches.

- Ans
- 1. Be in somebody's favour or good opinion
 - 2. A book containing a list of secret contacts
 - 3. To study very hard
 - 4. Imitate or emulate someone in a particular way

Question ID : 26433072450
Status : Not Answered
Chosen Option : --

Q.10 Select the INCORRECTLY spelt word.

- Ans
- 1. Demolish
 - 2. Congruent
 - 3. Circamference
 - 4. Democracy

Question ID : 26433073722
Status : Not Answered
Chosen Option : --

Q.11 Select the most appropriate ANTONYM of the given word.
Vanquish

- Ans
- 1. Halt
 - 2. Surrender
 - 3. Finish
 - 4. Stoop

Question ID : 26433066085
Status : Not Answered
Chosen Option : --

Q.12 Select the most appropriate option to substitute the underlined segment in the given sentence to make it a meaningful sentence. If no substitution is required, select 'No substitution'.

A new kind of pollution that is acquiring serious dimensions was noise pollution.

- Ans
- 1. is acquiring serious dimensions is noise pollution.
 - 2. have acquiring serious dimensions is noise pollution.
 - 3. No substitution
 - 4. have been acquiring serious dimensions is noise pollution.

Question ID : 26433092041
Status : Not Answered
Chosen Option : --

Q.13 The following sentence has been divided into parts. One of them may contain an error. Select the part that contains the error from the given options. If you don't find any error, mark 'No error' as your answer.

The immense talent / we having at our disposal is / impressive to say the least.

- Ans
- 1. we having at our disposal is
 - 2. impressive to say the least
 - 3. The immense talent
 - 4. No error

Question ID : 264330114513
Status : Not Answered
Chosen Option : --

Q.14 Select the most appropriate ANTONYM of the word given in the bracket to fill in the blank.

I can't forget the (convivial)_____ atmosphere at the college reunion.

- Ans
- 1. antisocial
 - 2. hospitable
 - 3. affable
 - 4. lively

Question ID : 26433059595
Status : Not Answered
Chosen Option : --

Q.15 Select the most appropriate ANTONYM of the word given in the brackets to fill in the blank.

We live on the _____ (centre) of the city.

- Ans
- 1. outskirts
 - 2. middle
 - 3. downtown
 - 4. interior

Question ID : 26433088854

Status : Not Answered

Chosen Option : --

Comprehension:

In the following passage, some words have been deleted. Read the passage carefully and select the most appropriate option to fill in each blank.

Accidents resulting from (1)_____ driving have become a daily affair. The speed maniacs responsible for most of them escape (2)_____ after knocking down a person, they speed away before anyone can take down the number of their vehicle. It is often young people from affluent families, not even eligible for a driving licence, who (3)_____ in reckless driving. The penalties imposed for reckless driving are much too (4)_____ to be effective. The penalty for reckless driving should be raised and the general public should be made (5)_____ of the consequences of reckless driving.

SubQuestion No : 16

Q.16 Select the most appropriate option to fill in blank 1.

- Ans
- 1. Reckless
 - 2. Careful
 - 3. Experimental
 - 4. Rude

Question ID : 26433092898

Status : Not Answered

Chosen Option : --

Comprehension:

In the following passage, some words have been deleted. Read the passage carefully and select the most appropriate option to fill in each blank.

Accidents resulting from (1)_____ driving have become a daily affair. The speed maniacs responsible for most of them escape (2)_____ after knocking down a person, they speed away before anyone can take down the number of their vehicle. It is often young people from affluent families, not even eligible for a driving licence, who (3)_____ in reckless driving. The penalties imposed for reckless driving are much too (4)_____ to be effective. The penalty for reckless driving should be raised and the general public should be made (5)_____ of the consequences of reckless driving.

SubQuestion No : 17

Q.17 Select the most appropriate option to fill in blank 2.

Ans 1. limit

2. punishment

3. notice

4. luxury

Question ID : 26433092899

Status : Not Answered

Chosen Option : --

Comprehension:

In the following passage, some words have been deleted. Read the passage carefully and select the most appropriate option to fill in each blank.

Accidents resulting from (1)_____ driving have become a daily affair. The speed maniacs responsible for most of them escape (2)_____ after knocking down a person, they speed away before anyone can take down the number of their vehicle. It is often young people from affluent families, not even eligible for a driving licence, who (3)_____ in reckless driving. The penalties imposed for reckless driving are much too (4)_____ to be effective. The penalty for reckless driving should be raised and the general public should be made (5)_____ of the consequences of reckless driving.

SubQuestion No : 18

Q.18 Select the most appropriate option to fill in blank 3.

Ans 1. indulge

2. frustrate

3. praise

4. attack

Question ID : 26433092900

Status : Not Answered

Chosen Option : --

Comprehension:

In the following passage, some words have been deleted. Read the passage carefully and select the most appropriate option to fill in each blank.

Accidents resulting from (1)_____ driving have become a daily affair. The speed maniacs responsible for most of them escape (2)_____ after knocking down a person, they speed away before anyone can take down the number of their vehicle. It is often young people from affluent families, not even eligible for a driving licence, who (3)_____ in reckless driving. The penalties imposed for reckless driving are much too (4)_____ to be effective. The penalty for reckless driving should be raised and the general public should be made (5)_____ of the consequences of reckless driving.

SubQuestion No : 19

Q.19 Select the most appropriate option to fill in blank 4.

- Ans 1. plain
 2. lenient
 3. furious
 4. strong

Question ID : 26433092901

Status : Not Answered

Chosen Option : --

Comprehension:

In the following passage, some words have been deleted. Read the passage carefully and select the most appropriate option to fill in each blank.

Accidents resulting from (1)_____ driving have become a daily affair. The speed maniacs responsible for most of them escape (2)_____ after knocking down a person, they speed away before anyone can take down the number of their vehicle. It is often young people from affluent families, not even eligible for a driving licence, who (3)_____ in reckless driving. The penalties imposed for reckless driving are much too (4)_____ to be effective. The penalty for reckless driving should be raised and the general public should be made (5)_____ of the consequences of reckless driving.

SubQuestion No : 20

Q.20 Select the most appropriate option to fill in blank 5.

- Ans 1. aware
 2. adhere
 3. avenge
 4. accuse

Question ID : 26433092902

Status : Not Answered

Chosen Option : --

Q.1 निम्न में से कौन सा 'अमृत' शब्द का पर्यायवाची शब्द नहीं है?

- Ans
- 1. सुधा
 - 2. सोम
 - 3. क्षीर
 - 4. अमिय

Question ID : 26433067070

Status : Answered

Chosen Option : 3

Q.2 'जो पहले न हुआ हो' इस वाक्यांश के लिए सार्थक शब्द है -

- Ans
- 1. पूर्व
 - 2. अनुत्तन
 - 3. अन्यत्र
 - 4. अपूर्व

Question ID : 26433062340

Status : Marked For Review

Chosen Option : 4

Q.3 नीचे दिए गए वाक्य में रेखांकित अंश के स्थान पर सबसे उपयुक्त विकल्प कौन-सा होगा?
गीता को अचार अच्छी लगती है।

- Ans
- 1. अच्छे लगता
 - 2. अच्छी लगते
 - 3. अच्छे लगता
 - 4. अच्छा लगता

Question ID : 26433066720

Status : Answered

Chosen Option : 4

Q.4 निम्नलिखित विकल्पों में से कौन सा एक वाक्य क्रिया-विशेषण से सम्बन्ध रखता है?

- Ans
- 1. रेखा गाती है।
 - 2. अनुराधा आयेगी।
 - 3. राहुल पढ़ता है।
 - 4. अशोक कल खेलेगा।

Question ID : 26433062947

Status : Answered

Chosen Option : 4

Q.5 यह हाथी विशालकाय है।
उपरोक्त वाक्य में रेखांकित शब्द के उचित पर्यायवाची शब्द का चयन विकल्पों में से कीजिए।

- Ans
- 1. सिंह
 - 2. घोटक
 - 3. मृग
 - 4. हस्ति

Question ID : 26433079728
Status : Answered
Chosen Option : 4

Q.6 'ईद का _____ होना' इस मुहावरे को पूरा करें।

- Ans
- 1. ईदी
 - 2. सेवई
 - 3. मिठाई
 - 4. चांद

Question ID : 26433066813
Status : Answered
Chosen Option : 4

Q.7 'मेघदूतम् महाकवि कालीदास का महत्त्वपूर्ण ग्रंथ है।' वाक्य में अशुद्ध वर्तनी वाला शब्द है -

- Ans
- 1. मेघदूतम्
 - 2. महाकवि
 - 3. कालीदास
 - 4. महत्त्वपूर्ण ग्रंथ

Question ID : 26433069695
Status : Marked For Review
Chosen Option : 3

Q.8 निम्नलिखित विकल्पों में से किस एक वाक्य में 'शाप' शब्द के लिए उचित विलोम का प्रयोग हुआ है?

- Ans
- 1. हम आपसे बहुत दूर हैं।
 - 2. हम प्रसन्न हैं।
 - 3. हम दुःखी हैं।
 - 4. आपके आशीर्वाद से हम कुशल हैं।

Question ID : 26433091192
Status : Answered
Chosen Option : 4

Q.9 निम्नलिखित वाक्य के रिक्त स्थान के लिए सबसे उपयुक्त मुहावरा क्या होगा?
'मेरे बच्चे प्रतिदिन _____ टहलने जाते हैं।'

- Ans
- 1. औंधे मुँह
 - 2. गिरे मुँह
 - 3. अंधेरे मुँह
 - 4. फटे मुँह

Question ID : 26433066733

Status : Answered

Chosen Option : 3

Q.10 'वह स्थान जहाँ स्थायी महत्त्व की वस्तुओं का संग्रह हो' इस वाक्यांश के लिए एक शब्द क्या होगा?

- Ans
- 1. संग्रहालय
 - 2. प्रयोगशाला
 - 3. विद्यालय
 - 4. पुस्तकालय

Question ID : 26433065732

Status : Answered

Chosen Option : 1

Q.11 निम्न वाक्य के रेखांकित अंश के स्थान पर सबसे उपयुक्त विकल्प कौन-सा होगा?
बेटों में युद्ध हो गई।

- Ans
- 1. युद्ध
 - 2. पिटाई
 - 3. संग्राम
 - 4. लड़ाई

Question ID : 26433072580

Status : Answered

Chosen Option : 4

Q.12 वर्तनी की दृष्टि से दिए गए वाक्य के अशुद्ध भाग का चयन कीजिए-
उसे कई ऐसी घटनाएँ याद हैं जो उसकी जवानी में घटित हुई थीं।

- Ans
- 1. उसे कई ऐसी
 - 2. घटनाएँ याद हैं
 - 3. जो उसकी जवानी
 - 4. में घटित हुई थीं।

Question ID : 26433062888

Status : Answered

Chosen Option : 1

Q.13 'जो लोक में संभव न हो' वाक्यांश के लिए सार्थक एक शब्द क्या होगा?

- Ans 1. अलौकिक
 2. लौकिक
 3. असंभव
 4. लोकायुक्त

Question ID : 26433065867

Status : Answered

Chosen Option : 1

Q.14 'अविचल' का विलोम निम्न में से नहीं है-

- Ans 1. जड़
 2. विकल
 3. डाँवाडोल
 4. ढुलमुल

Question ID : 26433062922

Status : Marked For Review

Chosen Option : 4

Q.15 निम्नलिखित में से किस वाक्य में 'सर्वनाम' सम्बन्धी अशुद्धि है?

- Ans 1. मुझे पता है कि आज वह यहाँ आएगा।
 2. तुम्हारे लिए मैं कुछ भी करने को तैयार हूँ।
 3. वह तो बिलकुल पत्थर बन गया।
 4. तुम तेरा घर स्वयं खुद संभालो।

Question ID : 26433063004

Status : Answered

Chosen Option : 4

Comprehension:

निम्नलिखित गद्यांश में से कुछ शब्द हटा दिए गए हैं। दिए गए विकल्पों की सहायता से रिक्त स्थानों की पूर्ति कीजिए। प्रत्येक संख्या के लिए उपयुक्त विकल्प का चयन कीजिए।

पहले पूरा संसार एक परिवार के 1. _____ था अब टुकड़ों में बँटकर एक-दूसरे 2. _____ दूर हो चुका है। पहले बड़े-बड़े दालानों-आँगनों में सब 3. _____ रहते थे 4. _____ छोटे-छोटे डिब्बे जैसे घरों में जीवन सिमटने 5. _____ है।

SubQuestion No : 16

Q.16 रिक्त स्थान 1 की पूर्ति के लिए सर्वाधिक उपयुक्त विकल्प का चयन कीजिए।

- Ans 1. भीतर
 2. समान
 3. सामान
 4. अंदर

Question ID : 26433091283

Status : Answered

Chosen Option : 2

Comprehension:

निम्नलिखित गद्यांश में से कुछ शब्द हटा दिए गए हैं। दिए गए विकल्पों की सहायता से रिक्त स्थानों की पूर्ति कीजिए। प्रत्येक संख्या के लिए उपयुक्त विकल्प का चयन कीजिए।

पहले पूरा संसार एक परिवार के 1. _____ था अब टुकड़ों में बँटकर एक-दूसरे 2. _____ दूर हो चुका है। पहले बड़े-बड़े दालानों-आँगनों में सब 3. _____ रहते थे 4. _____ छोटे-छोटे डिब्बे जैसे घरों में जीवन सिमटने 5. _____ है।

SubQuestion No : 17

Q.17 रिक्त स्थान 2 की पूर्ति के लिए सर्वाधिक उपयुक्त विकल्प का चयन कीजिए।

- Ans
- 1. के
 - 2. से
 - 3. ने
 - 4. में

Question ID : 26433091284

Status : Answered

Chosen Option : 2

Comprehension:

निम्नलिखित गद्यांश में से कुछ शब्द हटा दिए गए हैं। दिए गए विकल्पों की सहायता से रिक्त स्थानों की पूर्ति कीजिए। प्रत्येक संख्या के लिए उपयुक्त विकल्प का चयन कीजिए।

पहले पूरा संसार एक परिवार के 1. _____ था अब टुकड़ों में बँटकर एक-दूसरे 2. _____ दूर हो चुका है। पहले बड़े-बड़े दालानों-आँगनों में सब 3. _____ रहते थे 4. _____ छोटे-छोटे डिब्बे जैसे घरों में जीवन सिमटने 5. _____ है।

SubQuestion No : 18

Q.18 रिक्त स्थान 3 की पूर्ति के लिए सर्वाधिक उपयुक्त विकल्प का चयन कीजिए।

- Ans
- 1. बँधकर
 - 2. छिपकर
 - 3. मिल-जुलकर
 - 4. अलग

Question ID : 26433091285

Status : Answered

Chosen Option : 3

Comprehension:

निम्नलिखित गद्यांश में से कुछ शब्द हटा दिए गए हैं। दिए गए विकल्पों की सहायता से रिक्त स्थानों की पूर्ति कीजिए। प्रत्येक संख्या के लिए उपयुक्त विकल्प का चयन कीजिए।

पहले पूरा संसार एक परिवार के 1. _____ था अब टुकड़ों में बँटकर एक-दूसरे 2. _____ दूर हो चुका है। पहले बड़े-बड़े दालानों-आँगनों में सब 3. _____ रहते थे 4. _____ छोटे-छोटे डिब्बे जैसे घरों में जीवन सिमटने 5. _____ है।

SubQuestion No : 19

Q.19 रिक्त स्थान 4 की पूर्ति के लिए सर्वाधिक उपयुक्त विकल्प का चयन कीजिए।

- Ans
- 1. सब
 - 2. सभी
 - 3. अब
 - 4. जब

Question ID : 26433091286

Status : Answered

Chosen Option : 3

Comprehension:

निम्नलिखित गद्यांश में से कुछ शब्द हटा दिए गए हैं। दिए गए विकल्पों की सहायता से रिक्त स्थानों की पूर्ति कीजिए। प्रत्येक संख्या के लिए उपयुक्त विकल्प का चयन कीजिए।

पहले पूरा संसार एक परिवार के 1. _____ था अब टुकड़ों में बँटकर एक-दूसरे 2. _____ दूर हो चुका है। पहले बड़े-बड़े दालानों-आँगनों में सब 3. _____ रहते थे 4. _____ छोटे-छोटे डिब्बे जैसे घरों में जीवन सिमटने 5. _____ है।

SubQuestion No : 20

Q.20 रिक्त स्थान 5 की पूर्ति के लिए सर्वाधिक उपयुक्त विकल्प का चयन कीजिए।

- Ans
- 1. लगी
 - 2. लगा
 - 3. लगता
 - 4. जुड़ा

Question ID : 26433091287

Status : Answered

Chosen Option : 2

Constable GD in CAPFs SSF Rifleman GD in Assam Rifles and Sepoy in NCB Examination 2022

Roll Number	KD Job Updates
Candidate Name	KD Job Updates
Venue Name	iON Digital Zone iDZ Sallahapur
Exam Date	25/01/2023
Exam Time	11:45 AM - 12:45 PM
Subject	Constable GD Examination 2022

Section : Part-A-General Intelligence and Reasoning

Q.1 यदि 'A' का अर्थ है 'घटाना', 'B' का अर्थ है 'भाग', 'C' का अर्थ है 'गुणा' और 'D' का अर्थ है 'जोड़', तो निम्नलिखित अभिव्यक्ति का मान क्या होगा?
8 A 80 B 16 C 90 D 21

- Ans
- 1. 421
 - 2. 463
 - 3. -463
 - 4. -421

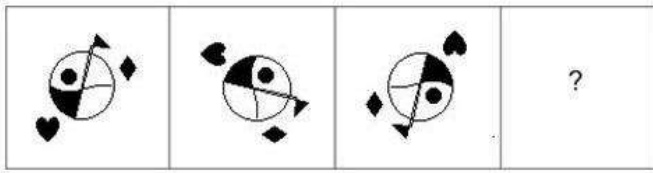
Question ID : 264330114178

Status : Answered

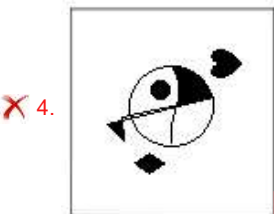
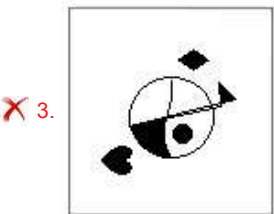
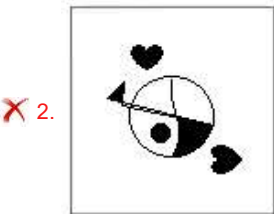
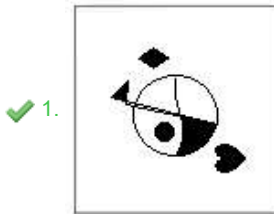
Chosen Option : 4

Q.2 उस आकृति का चयन कीजिए जो नीचे दी गई श्रृंखला में प्रश्न चिह्न (?) के स्थान

पर आएगी।



Ans



Question ID : 26433070423

Status : Answered

Chosen Option : 1

Q.3 'निकट' का जो संबंध 'पास' से है, वही संबंध 'दूरस्थ' का '_____' से है।
(शब्दों को अर्थपूर्ण शब्दों के रूप में मानना है और उन्हें शब्द में अक्षरों/व्यंजनों/स्वरों की संख्या के आधार पर एक-दूसरे से संबंधित नहीं करना है।)

Ans ✗ 1. नजदीक

✗ 2. दौड़ना

✗ 3. कम्पास

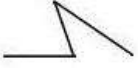
✓ 4. दूर

Question ID : 26433057751

Status : Answered

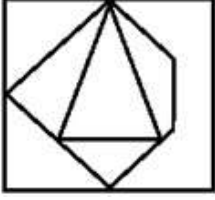
Chosen Option : 4

Q.4 निम्नलिखित विकल्पों में से उस आकृति का चयन करें जिसमें नीचे दी गई आकृति निहित है (आकृति को घुमाने की अनुमति नहीं है)।




Ans

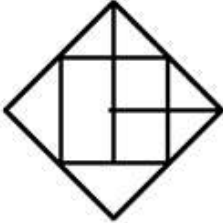
✗ 1.



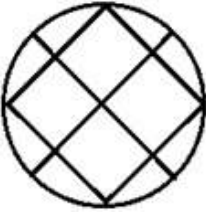
✓ 2.



✗ 3.



✗ 4.



Question ID : 26433069538

Status : Answered

Chosen Option : 2

Q.5 उस विकल्प का चयन करें जो तीसरी संख्या से उसी प्रकार संबंधित है जिस प्रकार दूसरी संख्या पहली संख्या से संबंधित है और छठी संख्या पांचवीं संख्या से संबंधित है।
27 : 189 :: 32 : ? :: 18 : 126

Ans ✗ 1. 236

✗ 2. 220

✓ 3. 224

✗ 4. 238

Question ID : 26433067937

Status : Answered

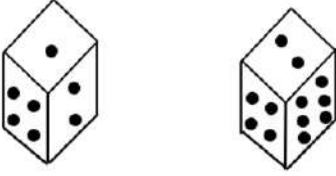
Chosen Option : 3

Q.6 एक निश्चित कूट भाषा में 'FLY' को 43 के रूप में और 'HAT' को 29 के रूप में कूटबद्ध किया गया है। उस भाषा में 'BEACH' को कैसे कूटबद्ध किया जाएगा?

- Ans 1. 39
 2. 19
 3. 40
 4. 22

Question ID : 26433074517
Status : Answered
Chosen Option : 2

Q.7 एक ही पासे की दो अलग-अलग स्थितियों को दर्शाया गया है जिस पर 1 से 6 तक की संख्याएं बिंदु के रूप में निरूपित हैं। '1' दर्शाने वाले फलक के विपरीत फलक पर स्थित संख्या ज्ञात कीजिए।



- Ans 1. 4
 2. 6
 3. 2
 4. 3

Question ID : 26433085507
Status : Answered
Chosen Option : 2

Q.8 निम्नलिखित में से कौन-सी संख्याएं दी गई श्रृंखला में प्रश्न-चिह्न (?) के स्थान पर आएंगी?
31, 33, 36, 41, 48, ?, ?

- Ans 1. 70, 82
 2. 59, 72
 3. 64, 78
 4. 60, 74

Question ID : 26433070222
Status : Answered
Chosen Option : 2

Q.9 एक कूट भाषा में 'She will come' को 'vu de ja' लिखा जाता है, 'Come and eat' को 'te vu ma' लिखा जाता है, 'all will eat' को 'ma nu ja' लिखा जाता है। उसी भाषा में 'all' शब्द के लिए क्या कूट है?

- Ans 1. nu
 2. ja
 3. ma
 4. te

Question ID : 26433068932
Status : Answered
Chosen Option : 1

Q.10 A, B, C, D, E, F, G और H एक वर्गाकार मेज के चारों ओर मेज के केंद्र की ओर मुख करके बैठे हैं। उनमें से कुछ कोनों पर बैठे हैं, जबकि कुछ भुजाओं के ठीक मध्य में बैठे हैं। E, G के बाईं ओर तीसरे स्थान पर बैठा है। E किसी एक कोने पर बैठा है। B, F के दाईं ओर दूसरे स्थान पर बैठा है। F किसी भी कोने पर नहीं बैठा है। F, E के ठीक बगल में नहीं बैठा है। H, A के ठीक बगल में बैठा है। H, किसी भी भुजा के मध्य में नहीं बैठा है। किसी भी एक दिशा से H और C के बीच में केवल तीन व्यक्ति बैठे हैं। यदि सभी व्यक्तियों को A से शुरू करके दक्षिणावर्त दिशा में वर्णानुक्रम में बैठाया जाता है, तो B, अपनी पिछली स्थिति के सापेक्ष किसी भी दिशा में कितने स्थान शिफ्ट होता है?

- Ans
- 1. 4
 - 2. 2
 - 3. 3
 - 4. 1

Question ID : 26433069666

Status : Answered

Chosen Option : 4

Q.11 छः विद्यार्थी - जेसन, तुषार, आनंद, स्टेसी, स्टीवन और मैक्स एक वृत्ताकार मेज के परितः मेज के केंद्र की ओर मुख करके बैठे हैं। जेसन, तुषार के दाईं ओर तीसरे स्थान पर बैठा है। आनंद, जेसन के बाईं ओर दूसरे स्थान पर बैठा है। स्टीवन, आनंद और जेसन के ठीक बगल में है। मैक्स, जेसन के दाईं ओर ठीक बगल में बैठा है। स्टेसी, तुषार के बाईं ओर ठीक बगल में है। मैक्स और स्टीवन के बीच में कौन बैठा है?

- Ans
- 1. आनंद
 - 2. जेसन
 - 3. स्टेसी
 - 4. तुषार

Question ID : 26433081785

Status : Answered

Chosen Option : 2

Q.12 उस विकल्प का चयन कीजिए जो तीसरे शब्द से उसी प्रकार संबंधित है जिस प्रकार दूसरा शब्द पहले शब्द से संबंधित है। (शब्दों को अर्थपूर्ण शब्दों के रूप में मानना है और उन्हें शब्द में अक्षरों/व्यंजनों/स्वरों की संख्या के आधार पर एक-दूसरे से संबंधित नहीं करना है।)
अतिरिक्त : अपर्याप्त :: प्रकट होना : ?

- Ans
- 1. गायब होना
 - 2. व्यक्ति
 - 3. डूबना
 - 4. पिघलना

Question ID : 26433079476

Status : Answered

Chosen Option : 1

Q.13 किस विकल्प में निम्नलिखित शब्दों का वह क्रम दिया गया है, जिस क्रम में वे अंग्रेजी शब्दकोश में आते हैं?

- 1 Ranked
- 2 Ragging
- 3 Rack
- 4 Rainbow
- 5 Radar

Ans ✓ 1. 3,5,2,4,1

✗ 2. 3,4,2,5,1

✗ 3. 3,4,2,1,5

✗ 4. 3,5,2,1,4

Question ID : 26433069266

Status : Answered

Chosen Option : 1

Q.14 निम्नलिखित में से कौन-सी संख्या दी गई श्रृंखला में प्रश्न-चिह्न (?) के स्थान पर आएगी?
10, 0, 20, 10, 30, 20, 40, 30, ?

Ans ✓ 1. 50

✗ 2. 70

✗ 3. 20

✗ 4. 40

Question ID : 26433069044

Status : Answered

Chosen Option : 1

Q.15 दिए गए विकल्पों में से उस अक्षर-समूह का चयन कीजिए जो निम्न श्रृंखला में प्रश्न-चिह्न (?) के स्थान पर आ सकता है।

FYBL, CVFP, ZSJT, ? , TMRB

Ans ✗ 1. WLXP

✗ 2. NKEC

✗ 3. NTPS

✓ 4. WPNX

Question ID : 26433074754

Status : Answered

Chosen Option : 4

Q.16 एक निश्चित कूट भाषा में,

'A + B' का अर्थ है कि 'A, B की माता है',

'A - B' का अर्थ है कि 'A, B का पिता है',

'A x B' का अर्थ है कि 'A, B का भाई है' और

'A & B' का अर्थ है कि 'A, B की पुत्री है'।

यदि $N \times L - T \& G + V$ है, तो N का V से क्या संबंध है?

Ans ✓ 1. ताऊ/चाचा

✗ 2. पिता

✗ 3. भाई

✗ 4. दादा

Question ID : 26433070373

Status : Answered

Chosen Option : 1

Q.17 दिए गए संयोजन की सही दर्पण छवि का चयन करें जब दर्पण को 'PQ' पर रखा

जाता है जैसा कि नीचे दिखाया गया है।



Ans

✗ 1.

✗ 2.

✓ 3.

✗ 4.

Question ID : 26433082745

Status : Answered

Chosen Option : 3

Q.18 नीचे दिए गए समीकरण को गणितीय रूप से सही बनाने के लिए किन दो चिन्हों को परस्पर बदलना चाहिए?

$$192 - 16 + 18 \times 6 \div 24 = 96$$

Ans

✓ 1. - और ÷

✗ 2. × और +

✗ 3. - और ×

✗ 4. - और +

Question ID : 264330117526

Status : Answered

Chosen Option : 1

Q.19 तीन कथनों के बाद तीन निष्कर्ष I, II और III दिए गए हैं। कथनों को सत्य मानते हुए, भले ही वे सामान्य रूप से ज्ञात तथ्यों से भिन्न प्रतीत होते हों, निर्धारित करें कि कौन-सा/से निष्कर्ष, कथनों का तार्किक रूप से अनुसरण करता है/करते हैं।

कथन:

सभी चॉकलेट बिस्कुट हैं।

सभी चिप्स बिस्कुट हैं।

सभी बिस्कुट आलू हैं।

निष्कर्ष:

I. सभी चिप्स आलू हैं।

II. सभी आलू चॉकलेट हैं।

III. कुछ आलू चिप्स हैं।

- Ans
- 1. केवल निष्कर्ष II और III अनुसरण करते हैं
 - 2. केवल निष्कर्ष I और III अनुसरण करते हैं
 - 3. केवल निष्कर्ष I और II अनुसरण करते हैं
 - 4. सभी निष्कर्ष अनुसरण करते हैं

Question ID : 26433082300

Status : Answered

Chosen Option : 2

Q.20 निम्नलिखित में से कौन-सा अक्षर-समूह नीचे दी गई अक्षर-समूह श्रृंखला में प्रश्न-चिह्न (?) के स्थान पर आकर श्रृंखला को पूर्ण करेगा?
GS, EU, AW, UY, MA, ?

- Ans
- 1. DC
 - 2. CB
 - 3. CC
 - 4. BC

Question ID : 26433067280

Status : Answered

Chosen Option : 3

Section : Part-B-General Knowledge and General awareness

Q.1 निम्नलिखित में से कौन सा वेद सबसे पुराना है?

- Ans
- 1. अथर्व
 - 2. साम
 - 3. ऋग
 - 4. यजुर

Question ID : 264330115443

Status : Answered

Chosen Option : 3

Q.2 भारत में अधिकतम मुद्रास्फीति वर्ष _____ में 25.2 प्रतिशत दर्ज की गई थी, जो मुख्य रूप से उसके पिछले वर्ष खरीफ फसलों के खराब हो जाने और कच्चे तेल के मूल्यों में बढ़ोतरी के कारण हुआ था।

- Ans
- 1. 1998-99
 - 2. 2019-20
 - 3. 2015-16
 - 4. 1974-75

Question ID : 264330116145
Status : Answered
Chosen Option : 4

Q.3 SME का पूर्ण रूप Small And (स्माल एंड) _____ एंटरप्राइजेज़ (Enterprises) है।

- Ans
- 1. manufacturing (मैन्यूफैक्चरिंग)
 - 2. medium-sized (मीडियम साइज्ड)
 - 3. modern-sized (मॉडर्न साइज्ड)
 - 4. mid-term (मिड-टर्म)

Question ID : 264330115313
Status : Marked For Review
Chosen Option : 4

Q.4 राउत नाचा, पंथी और सुआ निम्नलिखित में से किस राज्य की प्रसिद्ध नृत्य शैलियां हैं?

- Ans
- 1. राजस्थान
 - 2. गुजरात
 - 3. छत्तीसगढ़
 - 4. झारखंड

Question ID : 26433071451
Status : Answered
Chosen Option : 3

Q.5 ज्वालामुखी से निकलकर पृथ्वी की सतह पर फैलने वाले मैग्मा को क्या कहते हैं?

- Ans
- 1. ज्वलखंडाश्मी प्रवाह
 - 2. लावा
 - 3. प्रपात
 - 4. राख

Question ID : 264330115996
Status : Answered
Chosen Option : 2

Q.6 किस संवैधानिक संशोधन के द्वारा संविधान में मूल कर्तव्यों को जोड़ा गया?

- Ans
- 1. 41वें
 - 2. 43वें
 - 3. 42वें
 - 4. 44वें

Question ID : 264330115631
Status : Answered
Chosen Option : 3

Q.7 _____ को पांचवीं पंचवर्षीय योजना के दौरान पेश किया गया था।

- Ans
- 1. दिवा-विद्यालय
 - 2. न्यूनतम आवश्यकता कार्यक्रम
 - 3. बेटी बचाओ
 - 4. स्वच्छ भारत

Question ID : 264330115363
Status : Marked For Review
Chosen Option : 1

Q.8 निम्नलिखित में से कौन BCCI के पहले अध्यक्ष थे?

- Ans
- 1. जेसी मुखर्जी
 - 2. आरई ग्रांट गोवन
 - 3. एंथोनी डीमेलो
 - 4. रोजर बिन्नी

Question ID : 264330116264
Status : Marked For Review
Chosen Option : 1

Q.9 2015 में, संगीत अकादमी मद्रास द्वारा दिए जाने वाले एमएन सुब्रमण्यम धर्मादा पुरस्कार से निम्न में से किसे सम्मानित किया गया है?

- Ans
- 1. अलरमेल वल्ली
 - 2. अनुराधा पाण्डेय
 - 3. महबूब सुभानी
 - 4. कृष्णा एला

Question ID : 264330115850
Status : Marked For Review
Chosen Option : 2

Q.10 नवंबर 2022 तक की स्थिति के अनुसार, निम्नलिखित में से कौन भारत के आंध्र प्रदेश राज्य के राज्यपाल हैं?

- Ans
- 1. विश्वभूषण हरिचंदन
 - 2. अनुसुइया उइके
 - 3. भगत सिंह कोशारी
 - 4. हेमंत सोरेन

Question ID : 264330114897
Status : Answered
Chosen Option : 1

Q.11 निम्नलिखित में से किस मंत्री द्वारा कोयला प्रेषण को ट्रैक करने के लिए SEVA ऐप को लॉन्च किया गया था?

- Ans
- 1. सुरेश प्रभु
 - 2. नितिन गडकरी
 - 3. रामविलास पासवान
 - 4. पीयूष गोयल

Question ID : 264330115016
Status : Marked For Review
Chosen Option : 2

Q.12 2011 में निम्नलिखित में से किस केंद्र शासित प्रदेश में उच्चतम साक्षरता दर दर्ज की गई थी?

- Ans
- 1. अण्डमान और निकोबार
 - 2. लक्षद्वीप
 - 3. दमन और दीव
 - 4. पुदुचेरी

Question ID : 264330116059
Status : Marked For Review
Chosen Option : 2

Q.13 जैनियों के दिगंबर संप्रदाय द्वारा पर्युषण पर्व का आयोजन _____ दिनों के लिए किया जाता है।

- Ans
- 1. 12
 - 2. 16
 - 3. 14
 - 4. 10

Question ID : 264330115083
Status : Not Attempted and Marked For Review
Chosen Option : --

Q.14 अवोगाद्रो की संख्या 6.022 X _____ है

- Ans 1. 10^{25}
 2. 10^{23}
 3. 10^{22}
 4. 10^{24}

Question ID : 264330115145
Status : Marked For Review
Chosen Option : 2

Q.15 2022 तक प्राप्त जानकारी के अनुसार, भारत में कितने उच्च न्यायालय हैं?

- Ans 1. 25
 2. 20
 3. 23
 4. 22

Question ID : 264330115667
Status : Answered
Chosen Option : 1

Q.16 पत्तियों की कोशिकाओं में आप लवक (plastids) कहाँ पाएंगे?

- Ans 1. कोशिका भित्ति
 2. कोशिका द्रव्य
 3. कोशिका झिल्ली
 4. केंद्रक

Question ID : 264330115192
Status : Marked For Review
Chosen Option : 1

Q.17 एशियाई खेल 2018 के समापन समारोह के लिए भारत का/की ध्वजवाहक कौन थे/थी?

- Ans 1. संजीव राजपूत
 2. दीपक कुमार
 3. नीरज चोपड़ा
 4. रानी रामपाल

Question ID : 264330115912
Status : Marked For Review
Chosen Option : 4

Q.18 पूना पैक्ट के परिणामस्वरूप हरिजन सेवक संघ की स्थापना कब हुई थी?

- Ans 1. 1938
 2. 1932
 3. 1936
 4. 1940

Question ID : 26433089892
Status : Marked For Review
Chosen Option : 2

Q.19 अटल पेंशन योजना (APY) के अंतर्गत ग्राहक (subscriber) की आयु _____ के बीच होनी चाहिए।

- Ans
- 1. 15-30 वर्ष
 - 2. 18-40 वर्ष
 - 3. 25-50 वर्ष
 - 4. 40-60 वर्ष

Question ID : 264330116196
Status : Marked For Review
Chosen Option : 4

Q.20 _____, विशेषज्ञों द्वारा किसी विशेष बीमारी के कारण समय से पहले मरने वाले लोगों की संख्या का पता लगाने के लिए उपयोग किया जाने वाला एक संकेतक है।

- Ans
- 1. सकल राष्ट्रीय उत्पाद
 - 2. माल एवं सेवा कर
 - 3. रोग का वैश्विक बोझ
 - 4. सकल घरेलू रोग

Question ID : 264330115560
Status : Marked For Review
Chosen Option : 4

Section : Part-C-Elementary Mathematics

Q.1 समलम्ब चतुर्भुज में सम्मुख समांतर भुजाओं की लंबाई क्रमशः 12 cm और 8 cm है, और उनके बीच की सबसे छोटी दूरी 16 cm है, समलम्ब चतुर्भुज का क्षेत्रफल ज्ञात करें।

- Ans
- 1. 84.5 cm^2
 - 2. 160 cm^2
 - 3. 144 cm^2
 - 4. 62.5 cm^2

Question ID : 26433079972
Status : Answered
Chosen Option : 2

Q.2 एक गोलार्ध का आयतन, 3 इकाई की त्रिज्या वाले गोले के आयतन का 32 गुना है। गोलार्ध का व्यास _____ इकाई है।

- Ans
- 1. 6
 - 2. 24
 - 3. 12
 - 4. 18

Question ID : 26433071268
Status : Answered
Chosen Option : 2

Q.3 1845 मे कोन सी सबसे छोटी संख्या को जोड़ा जाना चाहिए ताकि यह 3, 4, 5 और 6 से विभाज्य हो जाए।

- Ans 1. 15
 2. 9
 3. 3
 4. 12

Question ID : 26433082347
Status : Answered
Chosen Option : 1

Q.4 जिया को एक बिल पर 30 प्रतिशत और 10 प्रतिशत की छूट मिलती है। उसे मिली कुल छूट है:

- Ans 1. 35 प्रतिशत
 2. 37 प्रतिशत
 3. 40 प्रतिशत
 4. 39 प्रतिशत

Question ID : 264330116765
Status : Answered
Chosen Option : 2

Q.5 एक कार्य को 10 पुरुषों द्वारा 8 दिनों में और 10 महिलाओं द्वारा 7 दिनों में पूरा किया जा सकता है। यदि 10 महिलाएं एवं 10 पुरुष बारी-बारी से एक-एक दिन कार्य करते हैं और महिलाएं पहले दिन से कार्य करना शुरू करती हैं, तो कार्य कितने दिनों में पूरा हो जाएगा?

- Ans 1. $7\frac{4}{7}$
 2. $7\frac{3}{7}$
 3. 7.5
 4. $7\frac{3}{8}$

Question ID : 26433071266
Status : Answered
Chosen Option : 2

Q.6 एक सामान्य अध्ययन पुस्तक का अंकित मूल्य Rs.800 है। यदि इसे 15% और 20% क्रमिक छूट पर बेचा जाता है, तो इसका विक्रय मूल्य ज्ञात कीजिए।

- Ans 1. Rs.520
 2. Rs.534
 3. Rs.544
 4. Rs.528

Question ID : 26433082973
Status : Answered
Chosen Option : 3

Q.7 8 संख्याओं का औसत 24 है। यदि इन संख्याओं में से एक संख्या को हटा दिया जाता है, तो औसत 22 हो जाता है। हटाई गई संख्या ज्ञात कीजिए।

- Ans
- 1. 37
 - 2. 35
 - 3. 38
 - 4. 36

Question ID : 26433075462
Status : Answered
Chosen Option : 3

Q.8 एक हवाई जहाज एक निश्चित दूरी को 510 km /h की गति से 3 घंटे में तय करता है। उसी दूरी को $10\frac{1}{5}$ घंटे में तय करने के लिए, उसे कितनी गति से उड़ना चाहिए?

- Ans
- 1. 150 km/h
 - 2. 230 km/h
 - 3. 305 km/h
 - 4. 250 km/h

Question ID : 26433080046
Status : Answered
Chosen Option : 1

Q.9 यदि एक प्राकृत संख्या को 5, 6 और 7 से विभाजित करने पर प्रत्येक स्थिति में 4 शेषफल बचता है, तो तीन अंकों की सबसे छोटी प्राकृत संख्या क्या होगी?

- Ans
- 1. 216
 - 2. 214
 - 3. 218
 - 4. 212

Question ID : 26433075636
Status : Answered
Chosen Option : 2

Q.10 यदि तेल का मूल्य 25 प्रतिशत से बढ़ता है और अर्पित तेल पर किए गए खर्च को 10 प्रतिशत से बढ़ाता है, तो वह खरीदे गए तेल की मात्रा को कितने प्रतिशत कम करेगा?

- Ans
- 1. 12 प्रतिशत
 - 2. 88 प्रतिशत
 - 3. 42 प्रतिशत
 - 4. 22 प्रतिशत

Question ID : 264330116800
Status : Answered
Chosen Option : 1

Q.11 एक फल विक्रेता Rs.150, Rs.90 और Rs.75 प्रति kg के भाव पर संतरा खरीदता है। तीन अलग-अलग कीमतों पर खरीदे गए इन संतरे को क्रमशः 4 : 5 : 6 के अनुपात में मिलाया जाता है, और 40% के लाभ पर बेचा जाता है। संतरे का प्रति kg विक्रय मूल्य (Rs. में) ज्ञात कीजिए।

- Ans
- 1. 210
 - 2. 140
 - 3. 150
 - 4. 160

Question ID : 26433075911
Status : Answered
Chosen Option : 2

Q.12 एक चुनाव में संतोष ने मंतोष से 24000 अधिक मत प्राप्त किए। यदि मंतोष और संतोष ने कुल मतों के क्रमशः 30% और 40% मत प्राप्त किए, तो कुल मतों की संख्या ज्ञात कीजिए।

- Ans
- 1. 240000
 - 2. 250000
 - 3. 254000
 - 4. 245000

Question ID : 26433080159
Status : Answered
Chosen Option : 1

Q.13 एक राशि का भुगतान Rs.1,25,000 प्रत्येक की दो वार्षिक किश्तों में किया जाता है। यदि ब्याज की दर 6% वार्षिक है तथा ब्याज का संयोजन वार्षिक रूप से किया गया है, तो उधार ली गई राशि ज्ञात कीजिए। (उत्तर निकटतम पूर्ण संख्या में ज्ञात कीजिए)

- Ans
- 1. Rs.2,29,174
 - 2. Rs.2,39,174
 - 3. Rs.1,50,375
 - 4. Rs.1,19,375

Question ID : 26433074995
Status : Answered
Chosen Option : 1

Q.14 एक दुकानदार ने ₹9 प्रति दर्जन की दर से 240 चॉकलेट खरीदी। यदि वह उन सभी को ₹1 प्रत्येक पर बेचता है, तो उसका लाभ प्रतिशत क्या था?

- Ans
- 1. 27%
 - 2. $33\frac{1}{3}\%$
 - 3. $66\frac{1}{6}\%$
 - 4. 24%

Question ID : 26433082094
Status : Answered
Chosen Option : 2

Q.15 एक व्यक्ति धारा की दिशा में 66 km की दूरी 6 घंटे में, और धारा के विपरीत दिशा में 72 km की दूरी 8 घंटे में तय कर सकता है। धारा की चाल ज्ञात कीजिए।

- Ans
- 1. 4 km/h
 - 2. 2 km/h
 - 3. 3 km/h
 - 4. 1 km/h

Question ID : 26433064924
Status : Answered
Chosen Option : 4

Q.16 एक विशेष वर्ष में विपिन का औसत मासिक व्यय पहले 4 महीनों के दौरान ₹6,250, अगले 4 महीनों के दौरान ₹6,500 और वर्ष के शेष महीनों के दौरान ₹x था। यदि वर्ष में कुल बचत ₹15,000 थी और उसका मासिक वेतन ₹9,600 है, तो x का मान ज्ञात करें।

- Ans
- 1. ₹12,750
 - 2. ₹13,000
 - 3. ₹12,300
 - 4. ₹12,000

Question ID : 26433079911
Status : Answered
Chosen Option : 3

Q.17 सोनल, कृति और प्रीति मिलकर एक कार्य को 6 दिनों में पूरा कर सकती हैं जबकि कृति और प्रीति समान कार्य को अलग-अलग 30 और 18 दिनों में कर सकती हैं, तो सोनल अकेले समान कार्य को कितने दिनों में कर सकती है?

- Ans
- 1. 66/5 दिन
 - 2. 14/5 दिन
 - 3. 88/7 दिन
 - 4. 90/7 दिन

Question ID : 264330116880
Status : Answered
Chosen Option : 4

Q.18 ₹8,300 पर 10% वार्षिक की दर से 2 वर्षों के वार्षिक रूप से चक्रवृद्धि हुए, चक्रवृद्धि ब्याज और साधारण ब्याज में अंतर कितना है?

- Ans
- 1. ₹38
 - 2. ₹83
 - 3. ₹1,660
 - 4. ₹1,743

Question ID : 26433066057
Status : Answered
Chosen Option : 2

Q.19 एक सह-शिक्षा विद्यालय के छात्रों की संख्या 3,000 है। यदि विद्यालय में लड़कों की संख्या का लड़कियों की संख्या से अनुपात 4 : 1 है, तो विद्यालय में लड़कों और लड़कियों की संख्या का मध्यानुपात क्या है, यह देखते हुए कि स्कूल में केवल लड़के और लड़कियां ही छात्र हैं?

Ans 1. 1300

2. 1400

3. 1200

4. 1100

Question ID : 26433090252

Status : Answered

Chosen Option : 3

Q.20 2 पेन और 3 नोटबुक का क्रय मूल्य ₹220 है और 2 पेन और 4 नोटबुक का क्रय मूल्य ₹250 है। पेन और नोटबुक के क्रय मूल्य के बीच का अनुपात ज्ञात कीजिए।

Ans 1. 1 : 2

2. 5 : 13

3. 5 : 12

4. 13 : 6

Question ID : 26433076411

Status : Answered

Chosen Option : 4

Section : Part-D-English

Q.1 Select the most appropriate option that can substitute the underlined segment in the given sentence.

This blue shirt you have wearing really looks expensive.

Ans 1. are wearing

2. has wear

3. will wearing

4. had wear

Question ID : 26433096155

Status : Not Answered

Chosen Option : --

Q.2 Select the most appropriate meaning of the italicised idiom in the given sentence.

"*Hold your horses !*" said Mom as I reached for a cookie. "They are still too hot to eat."

Ans 1. Be in a rage

2. Be patient

3. Be in a hurry

4. Be docile

Question ID : 264330101305

Status : Not Answered

Chosen Option : --

Q.3 Choose the option that can substitute the underlined segment correctly and complete the meaning of the sentence.

The grandmother asked Rita to close the window as she suddenly started feeling extremely cold.

- Ans
- 1. Icing
 - 2. Frosting
 - 3. Freezing
 - 4. Cold

Question ID : 26433088879
Status : Not Answered
Chosen Option : --

Q.4 Select the option that expresses the given sentence in simple past tense.

- A. Last year, I have travelled to Japan.
- B. Last year, I was travelling to Japan.
- C. Last year, I travelled to Japan.
- D. Last year, I had been travelling to Japan.

- Ans
- 1. C
 - 2. A
 - 3. D
 - 4. B

Question ID : 26433073520
Status : Not Answered
Chosen Option : --

Q.5 A part of the given sentence which has been underlined may contain a spelling error. Select the option that correctly rectifies the spelling error. If there is no error, select 'No error'.

Technology has become an indispensable element in our day-to-day activities.

- Ans
- 1. Endispensible
 - 2. No error
 - 3. Indispensible
 - 4. Indispinsable

Question ID : 26433071787
Status : Not Answered
Chosen Option : --

Q.6 Select the most appropriate ANTONYM of the given word.

Hasty

- Ans
- 1. Cautious
 - 2. Reckless
 - 3. Quick
 - 4. Brisk

Question ID : 26433072668
Status : Not Answered
Chosen Option : --

Q.7 Select the most appropriate synonym of the given word to fill in the blank in the sentence.

Casual

Sita wore a _____ yet stunning dress at the birthday party of her son.

- Ans
- 1. formal
 - 2. uniform
 - 3. regular
 - 4. temporary

Question ID : 26433060549
Status : Not Answered
Chosen Option : --

Q.8 Select the most appropriate meaning of the given idiom.
Throw caution to the wind

- Ans
- 1. Careful
 - 2. Be cautious
 - 3. Ignore the risk
 - 4. Carefree

Question ID : 26433070803
Status : Not Answered
Chosen Option : --

Q.9 Select the INCORRECTLY spelt word.

- Ans
- 1. Apparatus
 - 2. Appearance
 - 3. Appreciate
 - 4. Appropriate

Question ID : 26433073927
Status : Not Answered
Chosen Option : --

Q.10 Select the most appropriate option to fill in the blank.

The moon looks bright and beautiful in the cloudless night sky. Yet it is very small compared _____ Earth.

- Ans
- 1. than
 - 2. to
 - 3. with
 - 4. in

Question ID : 26433072726
Status : Not Answered
Chosen Option : --

Q.11 Select the most appropriate ANTONYM of the word given in the brackets to fill in the blank and complete the sentence.

The water was too _____ (profound) to take a swim.

- Ans
- 1. turbid
 - 2. dangerous
 - 3. hot
 - 4. shallow

Question ID : 26433089839
Status : Not Answered
Chosen Option : --

Q.12 Select the most appropriate synonym of the given word.

Beautiful

- Ans
- 1. Drab
 - 2. Dull
 - 3. Homely
 - 4. Pretty

Question ID : 26433072532
Status : Not Answered
Chosen Option : --

Q.13 Select the most appropriate ANTONYM of the given word.

Celebrate

- Ans
- 1. Disgrace
 - 2. Manipulate
 - 3. Instigate
 - 4. Tabulate

Question ID : 26433073803
Status : Not Answered
Chosen Option : --

Q.14 Select the most appropriate synonym of the given word.

Heyday

- Ans
- 1. Yesteryears
 - 2. Dreamy
 - 3. Fateful
 - 4. Prime

Question ID : 26433073985
Status : Not Answered
Chosen Option : --

Q.15 Select the most appropriate **ANTONYM** of the underlined word.

The authority tries to subjugate the marginalised people.

- Ans
- 1. **enslave**
 - 2. **subordinate**
 - 3. **liberate**
 - 4. **trap**

Question ID : **26433093937**

Status : **Not Answered**

Chosen Option : --

Comprehension:

In the following passage, some words have been deleted. Read the passage carefully and select the most appropriate option to fill in each blank.

Residents of Victorian Street in Thornton (1)_____ disturbed last night by an unusual accident. At eleven o'clock a car broke down near the end of the street and the driver left his vehicle (2)_____ while he went on with his journey by taxi. An hour later, the car's alarm went off when it was hit (3)_____ a stolen van. The engine of the van blew up, so the thief tried to drive away in the car. But he gave up when the car would not (4)_____ and (5)_____ a bicycle instead.

SubQuestion No : 16

Q.16 Select the most appropriate option to fill in blank number 1.

- Ans
- 1. **is**
 - 2. **were**
 - 3. **are**
 - 4. **was**

Question ID : **26433060287**

Status : **Not Answered**

Chosen Option : --

Comprehension:

In the following passage, some words have been deleted. Read the passage carefully and select the most appropriate option to fill in each blank.

Residents of Victorian Street in Thornton (1)_____ disturbed last night by an unusual accident. At eleven o'clock a car broke down near the end of the street and the driver left his vehicle (2)_____ while he went on with his journey by taxi. An hour later, the car's alarm went off when it was hit (3)_____ a stolen van. The engine of the van blew up, so the thief tried to drive away in the car. But he gave up when the car would not (4)_____ and (5)_____ a bicycle instead.

SubQuestion No : 17

Q.17 Select the most appropriate option to fill in blank number 2.

- Ans
- 1. **here**
 - 2. **there**
 - 3. **then**
 - 4. **their**

Question ID : **26433060288**

Status : **Not Answered**

Chosen Option : --

Comprehension:

In the following passage, some words have been deleted. Read the passage carefully and select the most appropriate option to fill in each blank.

Residents of Victorian Street in Thornton (1)_____ disturbed last night by an unusual accident. At eleven o'clock a car broke down near the end of the street and the driver left his vehicle (2)_____ while he went on with his journey by taxi. An hour later, the car's alarm went off when it was hit (3)_____ a stolen van. The engine of the van blew up, so the thief tried to drive away in the car. But he gave up when the car would not (4)_____ and (5)_____ a bicycle instead.

SubQuestion No : 18

Q.18 Select the most appropriate option to fill in blank number 3.

- Ans 1. by
 2. on
 3. in
 4. above

Question ID : 26433060289

Status : Not Answered

Chosen Option : --

Comprehension:

In the following passage, some words have been deleted. Read the passage carefully and select the most appropriate option to fill in each blank.

Residents of Victorian Street in Thornton (1)_____ disturbed last night by an unusual accident. At eleven o'clock a car broke down near the end of the street and the driver left his vehicle (2)_____ while he went on with his journey by taxi. An hour later, the car's alarm went off when it was hit (3)_____ a stolen van. The engine of the van blew up, so the thief tried to drive away in the car. But he gave up when the car would not (4)_____ and (5)_____ a bicycle instead.

SubQuestion No : 19

Q.19 Select the most appropriate option to fill in blank number 4.

- Ans 1. started
 2. start
 3. starting
 4. starts

Question ID : 26433060290

Status : Not Answered

Chosen Option : --

Comprehension:

In the following passage, some words have been deleted. Read the passage carefully and select the most appropriate option to fill in each blank.

Residents of Victorian Street in Thornton (1)_____ disturbed last night by an unusual accident. At eleven o'clock a car broke down near the end of the street and the driver left his vehicle (2)_____ while he went on with his journey by taxi. An hour later, the car's alarm went off when it was hit (3)_____ a stolen van. The engine of the van blew up, so the thief tried to drive away in the car. But he gave up when the car would not (4)_____ and (5)_____ a bicycle instead.

SubQuestion No : 20

Q.20 Select the most appropriate option to fill in blank number 5.

- Ans 1. parked
 2. lent
 3. stole
 4. bought

Question ID : 26433060291
Status : Not Answered
Chosen Option : --

Section : Part-D-Hindi

Q.1 'एकमात्र दो उपाय हैं।' रेखांकित शब्द के स्थान पर उपयुक्त शब्द क्या होगा?

- Ans 1. कुछ
 2. क्या
 3. केवल
 4. दोमात्र

Question ID : 26433062205
Status : Answered
Chosen Option : 3

Q.2 निम्न वाक्यांश के लिए एक शब्द क्या होगा?
जिसका दूसरा उपाय न हो

- Ans 1. अन्यग
 2. अनन्योपाय
 3. अन्योन्य
 4. अन्यतम

Question ID : 26433070063
Status : Answered
Chosen Option : 2

Q.3 निम्नलिखित वाक्य में रेखांकित खंड के स्थान पर प्रयुक्त होने वाले सबसे उपयुक्त विकल्प का चयन कीजिए।

आज से यह नियम चालू है।

- Ans
- 1. आगे
 - 2. लागू
 - 3. ऊपर
 - 4. पीछे

Question ID : 26433079564
Status : Answered
Chosen Option : 2

Q.4 निम्नलिखित मुहावरे के उचित अर्थ का चयन कीजिए-
टाँग अड़ाना

- Ans
- 1. लँगड़ी मारना
 - 2. अड़चन डालना
 - 3. चापलूसी करना
 - 4. उन्नति न करना

Question ID : 26433065884
Status : Answered
Chosen Option : 2

Q.5 'शब' के अर्थ से निम्न वाक्य की पूर्ति कीजिए।
शमशानघाट में शव को _____ दस बजे पहुँचाया गया।

- Ans
- 1. रात
 - 2. सुबह
 - 3. दिन
 - 4. दोपहर

Question ID : 26433079237
Status : Answered
Chosen Option : 2

Q.6 'मेरे पास एक बहुत लंबी खड़ी है।' इस वाक्य में अशुद्ध शब्द का प्रयोग पहचानिए।

- Ans
- 1. बहुत
 - 2. एक
 - 3. खड़ी
 - 4. लंबी-सी

Question ID : 26433085060
Status : Answered
Chosen Option : 1

Q.7 निम्न में से कौन सा वाक्य क्रिया विशेषण का उदाहरण नहीं है?

- Ans
- 1. वह धीरे-धीरे चलता है।
 - 2. आज तेज़ बारिश होगी।
 - 3. तुम्हें कम बोलना चाहिए।
 - 4. अब उठ भी जाओ।

Question ID : 26433063050
Status : Answered
Chosen Option : 4

Q.8 'आप इस पत्र पर हस्ताक्षर बना दीजिए।' इस वाक्य में अनुपयुक्त शब्द क्या है?

- Ans
- 1. पत्र
 - 2. हस्ताक्षर
 - 3. इस
 - 4. बना

Question ID : 26433091304
Status : Answered
Chosen Option : 4

Q.9 निम्नलिखित विकल्पों में से 'जो अपने मत का अनुयायी हो' वाक्यांश के लिए एक सार्थक शब्द क्या होगा ?

- Ans
- 1. परिवेश
 - 2. स्वाभिमान
 - 3. आलोचक
 - 4. आत्माभिमत

Question ID : 26433062468
Status : Answered
Chosen Option : 4

Q.10 'उल्टा चोर कोतवाल को डांटे' मुहावरे का सही अर्थ क्या है?

- Ans
- 1. चोर को सजा देना
 - 2. बड़े व्यक्ति में दोष होना
 - 3. छोटों को धमकाना
 - 4. स्वयं दोषी होते हुए भी निर्दोष को धमकाना

Question ID : 26433062605
Status : Answered
Chosen Option : 4

Q.11 'फल देने वाला' वाक्यांश के लिए इनमें से उपयुक्त शब्द कौन-सा है?

- Ans 1. फलदायी
 2. फलाहारी
 3. फलहरी
 4. फलदार

Question ID : 26433066891
Status : Answered
Chosen Option : 1

Q.12 बलराम विनय का ज्येष्ठ भाई है।
उपरोक्त वाक्य में रेखांकित शब्द के विलोम शब्द का चयन कीजिए।

- Ans 1. घनिष्ठ
 2. प्रिय
 3. कनिष्ठ
 4. बड़ा

Question ID : 26433079638
Status : Answered
Chosen Option : 4

Q.13 निम्नलिखित में से क्या 'इंगित' का क्या अर्थ नहीं होता है?

- Ans 1. इशारा
 2. संकेत
 3. अभिप्राय
 4. अवस्था

Question ID : 26433080946
Status : Answered
Chosen Option : 4

Q.14 विष्णु जी को माधव के नाम से पुकारो या _____ के नाम से वह हमेशा सुनते हैं।
'विष्णु' के पर्याय से उपरोक्त वाक्य पूर्ण कीजिए।

- Ans 1. अमर
 2. ईश्वर
 3. गिरीश
 4. जनार्दन

Question ID : 26433084983
Status : Answered
Chosen Option : 3

Q.15 निम्न वाक्य में त्रुटि पहचानिए।
लड़कियों में सहनशीलता पाई जाती है।

- Ans
- 1. सहनशीलता
 - 2. लड़कियों में
 - 3. लड़कियों, हैं
 - 4. पाई जाती है

Question ID : 26433063038

Status : Answered

Chosen Option : 3

Comprehension:

निम्नलिखित गद्यांश में कुछ शब्दों को हटा दिया गया है। दिए गए विकल्पों की सहायता से रिक्त स्थानों की पूर्ति कीजिए। प्रत्येक संख्या के लिए सबसे उपयुक्त विकल्प का चयन कीजिए।

1. _____ पर चलना अत्यंत कठिन है। इस पर चलने वाले को कठिनाइयां भले ही आएँ, किन्तु वह 2. _____ नहीं है। जो लोग कठिनता देखकर 3. _____ हो जाते हैं, वे जल्दी ही अपना मार्ग बदल लेते हैं। मार्ग बदलने का अर्थ है कि वे असत्य की ओर बढ़ जाते हैं। इस प्रकार वे 4. _____ हो जाते हैं। इससे जीवन का 5. _____ ही नष्ट हो जाता है। ऐसा जीवन असफल हो जाता है।

SubQuestion No : 16

Q.16 रिक्त स्थान 1 की पूर्ति के लिए सबसे उपयुक्त विकल्प का चयन करें।

- Ans
- 1. अनीति के मार्ग
 - 2. प्रवचना के मार्ग
 - 3. सत्य के मार्ग
 - 4. मिथ्या के मार्ग

Question ID : 264330110879

Status : Answered

Chosen Option : 3

Comprehension:

निम्नलिखित गद्यांश में कुछ शब्दों को हटा दिया गया है। दिए गए विकल्पों की सहायता से रिक्त स्थानों की पूर्ति कीजिए। प्रत्येक संख्या के लिए सबसे उपयुक्त विकल्प का चयन कीजिए।

1. _____ पर चलना अत्यंत कठिन है। इस पर चलने वाले को कठिनाइयां भले ही आएँ, किन्तु वह 2. _____ नहीं है। जो लोग कठिनता देखकर 3. _____ हो जाते हैं, वे जल्दी ही अपना मार्ग बदल लेते हैं। मार्ग बदलने का अर्थ है कि वे असत्य की ओर बढ़ जाते हैं। इस प्रकार वे 4. _____ हो जाते हैं। इससे जीवन का 5. _____ ही नष्ट हो जाता है। ऐसा जीवन असफल हो जाता है।

SubQuestion No : 17

Q.17 रिक्त स्थान 2 की पूर्ति के लिए सबसे उपयुक्त विकल्प का चयन करें।

- Ans
- 1. सोता
 - 2. भटकता
 - 3. खोता
 - 4. पटकता

Question ID : 264330110880

Status : Answered

Chosen Option : 2

Comprehension:

निम्नलिखित गद्यांश में कुछ शब्दों को हटा दिया गया है। दिए गए विकल्पों की सहायता से रिक्त स्थानों की पूर्ति कीजिए। प्रत्येक संख्या के लिए सबसे उपयुक्त विकल्प का चयन कीजिए।

1. _____ पर चलना अत्यंत कठिन है। इस पर चलने वाले को कठिनाइयां भले ही आएँ, किन्तु वह 2. _____ नहीं है। जो लोग कठिनता देखकर 3. _____ हो जाते हैं, वे जल्दी ही अपना मार्ग बदल लेते हैं। मार्ग बदलने का अर्थ है कि वे असत्य की ओर बढ़ जाते हैं। इस प्रकार वे 4. _____ हो जाते हैं। इससे जीवन का 5. _____ ही नष्ट हो जाता है। ऐसा जीवन असफल हो जाता है।

SubQuestion No : 18

Q.18 रिक्त स्थान 3 की पूर्ति के लिए सबसे उपयुक्त विकल्प का चयन करें।

- Ans 1. विचलित
 2. कायर
 3. अविचलित
 4. सजग

Question ID : 264330110881

Status : Answered

Chosen Option : 1

Comprehension:

निम्नलिखित गद्यांश में कुछ शब्दों को हटा दिया गया है। दिए गए विकल्पों की सहायता से रिक्त स्थानों की पूर्ति कीजिए। प्रत्येक संख्या के लिए सबसे उपयुक्त विकल्प का चयन कीजिए।

1. _____ पर चलना अत्यंत कठिन है। इस पर चलने वाले को कठिनाइयां भले ही आएँ, किन्तु वह 2. _____ नहीं है। जो लोग कठिनता देखकर 3. _____ हो जाते हैं, वे जल्दी ही अपना मार्ग बदल लेते हैं। मार्ग बदलने का अर्थ है कि वे असत्य की ओर बढ़ जाते हैं। इस प्रकार वे 4. _____ हो जाते हैं। इससे जीवन का 5. _____ ही नष्ट हो जाता है। ऐसा जीवन असफल हो जाता है।

SubQuestion No : 19

Q.19 रिक्त स्थान 4 की पूर्ति के लिए सबसे उपयुक्त विकल्प का चयन करें।

- Ans 1. लूटमार
 2. अनाश्रमी
 3. पथभ्रष्ट
 4. बुद्धिभ्रष्ट

Question ID : 264330110882

Status : Answered

Chosen Option : 3

Comprehension:

निम्नलिखित गद्यांश में कुछ शब्दों को हटा दिया गया है। दिए गए विकल्पों की सहायता से रिक्त स्थानों की पूर्ति कीजिए। प्रत्येक संख्या के लिए सबसे उपयुक्त विकल्प का चयन कीजिए।

1. _____ पर चलना अत्यंत कठिन है। इस पर चलने वाले को कठिनाइयां भले ही आएँ, किन्तु वह 2. _____ नहीं है। जो लोग कठिनता देखकर 3. _____ हो जाते हैं, वे जल्दी ही अपना मार्ग बदल लेते हैं। मार्ग बदलने का अर्थ है कि वे असत्य की ओर बढ़ जाते हैं। इस प्रकार वे 4. _____ हो जाते हैं। इससे जीवन का 5. _____ ही नष्ट हो जाता है। ऐसा जीवन असफल हो जाता है।

SubQuestion No : 20

Q.20 रिक्त स्थान 5 की पूर्ति के लिए सबसे उपयुक्त विकल्प का चयन करें।

- Ans 1. निमित्त
 2. अभिप्राय
 3. नियत
 4. मंशा

Question ID : 264330110883

Status : Answered

Chosen Option : 1

KD Job Updates

Constable GD in CAPFs SSF Rifleman GD in Assam Rifles and Sepoy in NCB Examination 2022

Roll Number	KD Job Updates
Candidate Name	KD Job Updates
Venue Name	Purnodaya Mahila Mahavidyalaya
Exam Date	25/01/2023
Exam Time	2:30 PM - 3:30 PM
Subject	Constable GD Examination 2022

Section : Part-A-General Intelligence and Reasoning

Q.1 उस विकल्प का चयन कीजिए जो पांचवें अक्षर-समूह से उसी प्रकार संबंधित है जिस प्रकार दूसरा अक्षर-समूह पहले अक्षर-समूह से संबंधित है और चौथा अक्षर-समूह तीसरे अक्षर-समूह से संबंधित है।
CAPTURE : PACERUT :: BANKING : NABGNIK :: CHARITY : ?

- Ans
- 1. RAHCYTI
 - 2. AHCYTIR
 - 3. YTIRAHC
 - 4. RITYCHA

Question ID : 26433069632

Status : Answered

Chosen Option : 2

Q.2 सात दोस्त M, N, O, P, Q, R और S एक सीधी बेंच पर पूर्व की ओर मुख करके बैठे हैं। P ठीक मध्य स्थान पर बैठा है। M के बाईं ओर केवल चार दोस्त बैठे हैं। R और S के बीच में केवल Q बैठा है। O, S के दाईं ओर तीसरे स्थान पर बैठा है। दाएं सिरे से दूसरे स्थान पर कौन बैठा है?

- Ans
- 1. N
 - 2. M
 - 3. O
 - 4. R

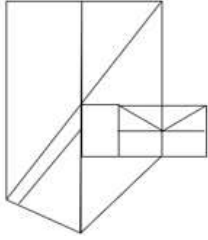
Question ID : 26433079060

Status : Answered

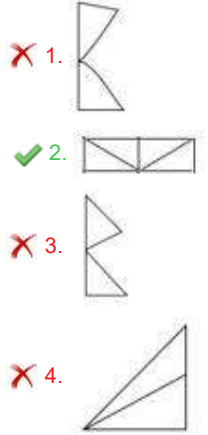
Chosen Option : 3

Q.3 वह विकल्प चित्र चुनिए, जो प्रस्तुत चित्र में अंतर्निहित है। (घुमाना अनुमन्य नहीं

है)



Ans



Question ID : 26433069336

Status : Answered

Chosen Option : 2

Q.4 एक निश्चित कूट भाषा में, 'GOLDEN' को 'MPHPGF' के रूप में लिखा जाता है और 'GERMAN' को 'SFHPCO' के रूप में लिखा जाता है। उसी भाषा में 'GLOBAL' को कैसे लिखा जाएगा?

Ans ✓ 1. PMHNCD

✗ 2. OLGNCD

✗ 3. PMHLAB

✗ 4. OLGLAB

Question ID : 26433090046

Status : Answered

Chosen Option : 1

Q.5 छह विद्यार्थी एक वृत्ताकार मेज के परितः केंद्र की ओर मुख करके बैठे हैं। जितेंद्र, शाहिद और जया दोनों के ठीक बगल में हैं। कोमल, शाहिद के दाईं ओर दूसरे स्थान पर बैठी है। तरुण, जया के बाईं ओर तीसरे स्थान पर बैठा है। विजय, कोमल और जया दोनों के ठीक बगल में है। जितेंद्र और तरुण के ठीक बगल में कौन बैठा/बैठी है?

Ans ✗ 1. विजय

✓ 2. शाहिद

✗ 3. कोमल

✗ 4. जया

Question ID : 26433069664

Status : Answered

Chosen Option : 2

Q.6 निम्नलिखित में से कौन-सी संख्या दी गई श्रृंखला में प्रश्न चिह्न (?) के स्थान पर आएगी?
-1, 0, 3, 8, 15, ?

- Ans
- 1. 13
 - 2. 56
 - 3. 24
 - 4. 32

Question ID : 26433082739
Status : Answered
Chosen Option : 3

Q.7 उस विकल्प का चयन कीजिए जो नीचे दिए गए शब्दों के उस क्रम को निरूपित करता है जिस क्रम में वे अंग्रेजी शब्दकोश में आते हैं?

1. RAY
2. RAVISH
3. RATIONAL
4. RATABLE
5. RASH
6. RAPTURE

- Ans
- 1. 6, 5, 4, 3, 2, 1
 - 2. 5, 6, 4, 3, 2, 1
 - 3. 3, 6, 5, 4, 2, 1
 - 4. 4, 6, 5, 3, 2, 1

Question ID : 26433079383
Status : Answered
Chosen Option : 1

Q.8 निम्नलिखित में से कौन-सी संख्या दी गई श्रृंखला में प्रश्न-चिह्न (?) के स्थान पर आकर उसे पूर्ण करेगी?
5, 293, 437, 509, ?

- Ans
- 1. 535
 - 2. 540
 - 3. 545
 - 4. 550

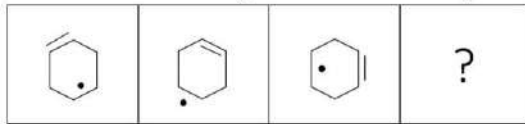
Question ID : 26433067859
Status : Not Answered
Chosen Option : --

Q.9 उस विकल्प का चयन कीजिए जो तीसरे शब्द से उसी प्रकार संबंधित है जिस प्रकार दूसरा शब्द पहले शब्द से संबंधित है। (शब्दों को अर्थपूर्ण शब्दों के रूप में मानना है और उन्हें शब्द में अक्षरों/व्यंजनों/स्वरों की संख्या के आधार पर एक-दूसरे से संबंधित नहीं करना है।)
कार : सीट बेल्ट :: पंखा : ?

- Ans
- 1. हवा
 - 2. बिजली
 - 3. ब्लेड
 - 4. कमरा

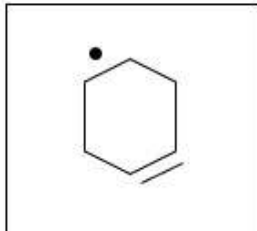
Question ID : 26433067974
Status : Answered
Chosen Option : 3

Q.10 दिए गए विकल्पों में से उस आकृति का चयन करें जो निम्न श्रृंखला में प्रश्नवाचक चिन्ह (?) के स्थान पर आ सकती है।

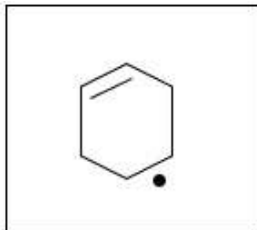


Ans

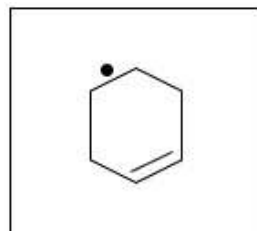
✗ 1.



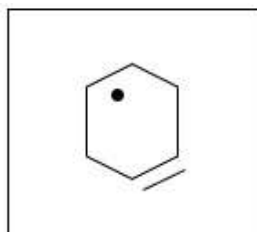
✗ 2.



✓ 3.



✗ 4.



Question ID : 26433080764

Status : Answered

Chosen Option : 3

Q.11 निम्नलिखित में से कौन-सा पद दी गई श्रृंखला में प्रश्न-चिह्न (?) के स्थान पर आएगा?
XDZA, VFXC, ?, LPNM, DXFU

Ans ✓ 1. RJTG

✗ 2. RITH

✗ 3. SJIG

✗ 4. SJTH

Question ID : 26433068303

Status : Answered

Chosen Option : 1

Q.12 निम्नलिखित में से कौन-सा पद दी गई शृंखला में प्रश्न-चिह्न (?) के स्थान पर आएगा?
BDPY, HITB, ?, TSBH, ZXFK

- Ans 1. NMXE
 2. NMXF
 3. NNXE
 4. NNYF

Question ID : 26433069448
Status : Answered
Chosen Option : 3

Q.13 नीचे दिए गए समीकरण को गणितीय रूप से सही बनाने के लिए किन दो चिन्हों को परस्पर बदलना चाहिए?

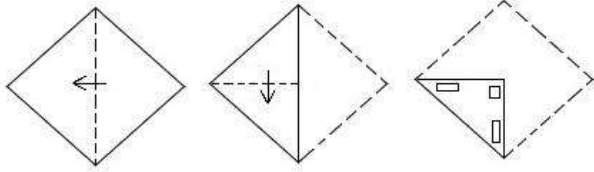
$$18 + 60 \div 15 \times 24 - 12 = 84$$

- Ans 1. + और -
 2. + और -
 3. \times और +
 4. \times और +

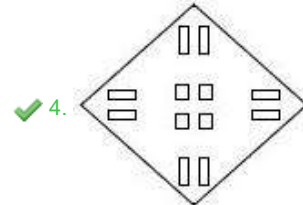
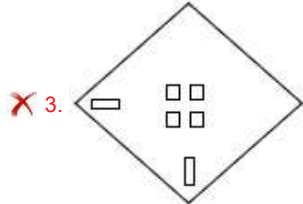
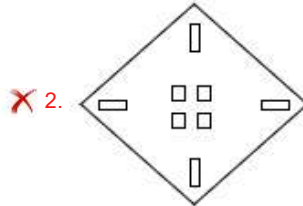
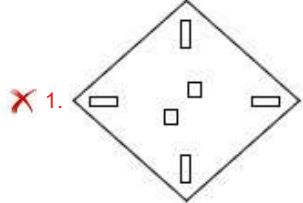
Question ID : 264330117494
Status : Not Answered
Chosen Option : --

KD Job Updates

Q.14 एक कागज को नीचे दर्शाए गए अनुसार मोड़ा और काटा जाता है। खोले जाने पर यह कैसा दिखाई देगा?



Ans



KD Job Updates

Question ID : 26433090093

Status : Answered

Chosen Option : 4

Q.15 एक निश्चित कूट भाषा में, 'CRAZE' को 'DTDDJ' के रूप में लिखा जाता है, 'GLORY' को 'HNRVD' के रूप में लिखा जाता है, उसी भाषा में 'FAME' को कैसे लिखा जाएगा?

Ans ✗ 1. GCIP

✗ 2. GOPI

✗ 3. IPCG

✓ 4. GCPI

Question ID : 26433069652

Status : Answered

Chosen Option : 4

Q.16 तीन कथन दिए गए हैं, जिनके बाद तीन निष्कर्ष I, II और III दिए गए हैं। कथनों को सत्य मानते हुए, भले ही वे सामान्य रूप से ज्ञात तथ्यों से भिन्न प्रतीत होते हों, निर्धारित करें कि कौन-सा/से निष्कर्ष कथनों का तार्किक रूप से अनुसरण करता है/करते हैं।

कथन:

कोई टाई पैंट नहीं है।

सभी पैंट शर्ट हैं।

सभी टाई शर्ट हैं।

निष्कर्ष:

I. कुछ शर्ट टाई हैं।

II. कुछ शर्ट पैंट हैं।

III. कुछ टाई शर्ट हैं।

- Ans 1. सभी निष्कर्ष अनुसरण करते हैं
2. केवल निष्कर्ष II और III अनुसरण करते हैं
3. केवल निष्कर्ष III अनुसरण करता है
4. केवल निष्कर्ष I और III अनुसरण करते हैं

Question ID : 26433090994

Status : Answered

Chosen Option : 1

Q.17 विकल्पों में दिए गए गणितीय चिह्नों का कौन सा संयोजन निम्न समीकरण में * चिह्नों के स्थान पर क्रमिक रूप से आकर समीकरण को संतुलित करेगा?
 $720 * 24 * 4 * 100 * 40 * 20$

- Ans 1. ÷, ×, =, +, -
2. +, =, ×, +, -
3. -, +, +, ×, =
4. ×, ÷, +, =, -

Question ID : 26433094988

Status : Not Answered

Chosen Option : --

Q.18 'A # B' का अर्थ है 'B, A की बहन है'
'A @ B' का अर्थ है 'B, A का भाई है'
'A % B' का अर्थ है 'B, A की पुत्री है'
'A \$ B' का अर्थ है 'B, A का पति है'
यदि A \$ B % C # D @ E है, तो E, A से किस प्रकार संबंधित है?

- Ans 1. पुत्र
2. भाई
3. पति
4. पिता

Question ID : 26433068534

Status : Answered

Chosen Option : 2

Q.19 दी गई आकृति के सही दर्पण प्रतिबिंब का चयन करें जब दर्पण नीचे दर्शाए गए अनुसार MN पर रखा जाता है।



- Ans
- 1. G E n 2 1 X F 9
 - 2. 9 E n 1 5 X 7 9
 - 3. 9 E n 2 1 X 7 9
 - 4. 9 E n 2 1 X F 9

Question ID : 26433089458
Status : Answered
Chosen Option : 3

Q.20 उस विकल्प का चयन करें, जो चौथे पद से उसी प्रकार संबंधित है, जिस प्रकार पहला पद दूसरे पद से संबंधित है और पाँचवाँ पद छठे पद से संबंधित है।
512 : 10 :: ? : 11 :: 1331 : 13

- Ans
- 1. 441
 - 2. 1000
 - 3. 729
 - 4. 343

Question ID : 26433074546
Status : Answered
Chosen Option : 3

Section : Part-B-General Knowledge and General awareness

Q.1 निम्नलिखित में से किस राजवंश ने मौर्योत्तर काल में रेशम मार्ग को नियंत्रित किया था?

- Ans
- 1. शुंग
 - 2. सातवाहन
 - 3. चेर
 - 4. कुषाण

Question ID : 26433085227
Status : Answered
Chosen Option : 4

Q.2 इनमें से किसने उपचुनाव जीता और जून 2022 में ओडिशा, भारत में ब्रजराजनगर निर्वाचन क्षेत्र से विधान सभा के सदस्य बने?

- Ans
- 1. पीयूष गोयल
 - 2. अलका मोहंती
 - 3. सुदीप रॉय बर्मन
 - 4. आशीष दास

Question ID : 264330114966
Status : Not Answered
Chosen Option : --

Q.3 चौरी-चौरा की घटना किस आंदोलन के दौरान हुई थी?

- Ans
- 1. चंपारण आंदोलन
 - 2. सविनय अवज्ञा आन्दोलन
 - 3. असहयोग आंदोलन
 - 4. भारत छोड़ो आंदोलन

Question ID : 264330115690
Status : Answered
Chosen Option : 3

Q.4 आधुनिक आवर्त नियम (Modern Periodic Law) का प्रतिपादन किसने किया?

- Ans
- 1. लोथर मेयर (Lothar Meyer)
 - 2. मेंडलीफ (Mendeleev)
 - 3. मोसले (Moseley)
 - 4. डोबेराइनर (Dobereiner)

Question ID : 26433066698
Status : Answered
Chosen Option : 2

Q.5 _____ का संबंध खाद्य पदार्थों के खराब होने, स्वाद बिगड़ने, संरचना बिगड़ने, रंग उड़ जाने और पोषण मूल्य में कमी से है।

- Ans
- 1. खाद्य परिरक्षण
 - 2. खाद्य संसाधन
 - 3. खाद्य संरक्षण
 - 4. खाद्य विकृति

Question ID : 264330115262
Status : Answered
Chosen Option : 4

Q.6 _____ सार्वजनिक वस्तुओं और सेवाओं के उदाहरण हैं।

- Ans
- 1. बिस्किट के पैकेट
 - 2. कपड़े
 - 3. सड़कें
 - 4. प्रसाधन उत्पाद

Question ID : 264330115281
Status : Answered
Chosen Option : 1

Q.7 'खर्ची पूजा' मुख्य रूप से भारत के निम्नलिखित में से किस राज्य में मनाया जाता है?

- Ans
- 1. तमिलनाडु
 - 2. बिहार
 - 3. त्रिपुरा
 - 4. राजस्थान

Question ID : 26433094890
Status : Not Answered
Chosen Option : --

Q.8 भारतीय संविधान का कौन सा भाग पंचायत से संबंधित है?

- Ans
- 1. भाग XI
 - 2. भाग X
 - 3. भाग VIII
 - 4. भाग IX

Question ID : 264330115616
Status : Answered
Chosen Option : 4

Q.9 जून 2022 में, संयुक्त राष्ट्र में भारत के स्थायी प्रतिनिधि के रूप में किसे नियुक्त किया गया?

- Ans
- 1. सैयद अकबरुद्दीन
 - 2. अशोक कुमार मुखर्जी
 - 3. रुचिरा कंबोज
 - 4. निरुपम सेन

Question ID : 264330114984
Status : Not Answered
Chosen Option : --

Q.10 मुक्केबाजी (बॉक्सिंग) के सबसे भारी भार वर्ग का नाम क्या है?

- Ans
- 1. फ्लाइ
 - 2. लाइट
 - 3. फेदर
 - 4. पिन

Question ID : 26433086733
Status : Not Answered
Chosen Option : --

Q.11 उपभोक्ता संरक्षण नियम, 2021 के अनुसार, राष्ट्रीय आयोग के पास उन शिकायतों पर विचार करने का अधिकार होगा जहां प्रतिफल के रूप में भुगतान की गई वस्तुओं या सेवाओं का मूल्य से अधिक है।

- Ans
- 1. दस करोड़ रुपए
 - 2. दो करोड़ रुपए
 - 3. पांच करोड़ रुपए
 - 4. एक करोड़ रुपए

Question ID : 264330116237
Status : Not Answered
Chosen Option : --

Q.12 तेज गड़गड़ाहट और बिजली के साथ अचानक और लगातार होने वाली वर्षा को _____ कहा जाता है।

- Ans
- 1. वर्षाक्रतु की शुरुआत
 - 2. मूसलधार वर्षाक्रतु (Cloudburst monsoon)
 - 3. वर्षाक्रतु का अंतराल
 - 4. वर्षाक्रतु का प्रस्फोट (Burst of the monsoon)

Question ID : 264330115983
Status : Answered
Chosen Option : 2

Q.13 मार्च 2022 तक प्राप्त जानकारी के अनुसार, संगीत नाटक अकादमी द्वारा शास्त्रीय नृत्य की श्रेणी में शामिल नृत्य निम्न में से कौन सा है?

- Ans
- 1. कालबेलिया
 - 2. बिहू
 - 3. घूमर
 - 4. मणिपुरी

Question ID : 26433070805
Status : Answered
Chosen Option : 4

Q.14 _____ एक अभ्यास है जिसका उद्देश्य वैकल्पिक मौसम में एक से अधिक फसलों की खेती करना है।

- Ans
- 1. बहुविध फसल खेती
 - 2. वन कृषि
 - 3. सीढ़ीदार खेती
 - 4. खरीफ फसल लेना

Question ID : 264330115428
Status : Answered
Chosen Option : 1

Q.15 निम्नलिखित में से किस राज्य में द्विसदनीय विधायिका है?

- Ans
- 1. पंजाब
 - 2. कर्नाटक
 - 3. हरियाणा
 - 4. तमिलनाडु

Question ID : 26433086861
Status : Answered
Chosen Option : 1

Q.16 भारतीय रिजर्व बैंक की स्थापना _____ को हुई थी।

- Ans
- 1. 1 मई 1932
 - 2. 1 अप्रैल 1935
 - 3. 1 जनवरी 1945
 - 4. 1 जून 1935

Question ID : 26433054800
Status : Answered
Chosen Option : 2

Q.17 छऊ में उनके योगदान के लिए वर्ष 2016 में संगीत नाटक अकादमी पुरस्कार से किसे सम्मानित किया गया?

- Ans
- 1. गोपाल प्रसाद दुबे
 - 2. सुचित्रा एला
 - 3. महबूब सुभानी
 - 4. विदुषी केएस जयलक्ष्मी

Question ID : 264330115891
Status : Not Answered
Chosen Option : --

Q.18 निम्नलिखित में से कौन-सी वस्तु गन्ने से प्राप्त नहीं होती है?

- Ans
- 1. गुडरस (molasses)
 - 2. चीनी
 - 3. खांडसारी (khandsari)
 - 4. शहद

Question ID : 264330115528
Status : Answered
Chosen Option : 4

Q.19 क्षेत्रफल की दृष्टि से भारत का सबसे बड़ा राज्य _____ है।

- Ans 1. राजस्थान
 2. मध्य प्रदेश
 3. महाराष्ट्र
 4. उत्तर प्रदेश

Question ID : 264330116089
Status : Answered
Chosen Option : 1

Q.20 कबड्डी मैच में एक टीम से एक बार में कितने खिलाड़ी खेलते हैं?

- Ans 1. 7
 2. 8
 3. 5
 4. 6

Question ID : 26433071574
Status : Answered
Chosen Option : 1

Section : Part-C-Elementary Mathematics

Q.1 ₹10,000 की राशि वार्षिक रूप से चक्रवृद्धि की जाने वाली एक निश्चित ब्याज दर पर 2 वर्ष में ₹12,100 हो जाती है। 4 वर्ष बाद यह राशि कितनी हो जाएगी?

- Ans 1. ₹16,461
 2. ₹14,641
 3. ₹13,431
 4. ₹14,341

Question ID : 26433081719
Status : Answered
Chosen Option : 2

Q.2 एक डीलर एक एयर-कंडीशनर का अंकित मूल्य ₹1,20,000 अंकित करता है और उस पर 12% की छूट देता है। इसके विक्रय मूल्य (₹ में) की गणना करें।

- Ans 1. 1,10,500
 2. 1,05,600
 3. 1,16,000
 4. 1,06,050

Question ID : 26433061890
Status : Answered
Chosen Option : 2

Q.3 यदि Rs.200 से Rs.350 तक की कीमतों पर खरीदी गई पुस्तकों को Rs.300 से Rs.450 तक की कीमतों पर बेचा जा रहा है, तो 8 पुस्तकों को बेचने पर अधिकतम संभावित लाभ क्या हो सकता है?

- Ans 1. Rs.2,000
 2. Rs.400
 3. Rs.1,600
 4. Rs.1,800

Question ID : 26433076036
Status : Not Answered
Chosen Option : --

Q.4 मिट्टी के तेल और पेट्रोल से बने 65 लीटर मिश्रण में, मिट्टी के तेल और पेट्रोल का अनुपात 3 : 2 है। इस अनुपात को 4 : 5 करने के लिए, दिए गए मिश्रण में कितने लीटर पेट्रोल मिलाना चाहिए?

- Ans 1. 24.5
 2. 22.75
 3. 29.25
 4. 23.25

Question ID : 26433080000
Status : Answered
Chosen Option : 2

Q.5 यदि संख्या 'a', 18 से विभाज्य है और एक अन्य संख्या 'b', 12 से विभाज्य है, तो $(a^2 - b^2)$ किससे विभाज्य होगी?

- Ans 1. 30
 2. 36
 3. 40
 4. 48

Question ID : 26433081701
Status : Not Answered
Chosen Option : --

Q.6 एक कार चालक को एक निश्चित दूरी तय करने में लगने वाले समय को 40% कम करने के लिए कार की चाल में कितने प्रतिशत की वृद्धि करनी चाहिए?

- Ans 1. $66\frac{2}{3}\%$
 2. $68\frac{1}{3}\%$
 3. $53\frac{1}{6}\%$
 4. $64\frac{1}{3}\%$

Question ID : 26433091505
Status : Not Answered
Chosen Option : --

Q.7 एक व्यक्ति, जो दौड़ने का अभ्यास करता है, दूरी के पहले आधे हिस्से को 4 किमी/घंटा की चाल से और शेष आधी दूरी को 6 किमी/घंटा की चाल से तय करता है। उसकी औसत चाल क्या है?

- Ans
- 1. 5 किमी/घंटा
 - 2. 5.2 किमी/घंटा
 - 3. 4.5 किमी/घंटा
 - 4. 4.8 किमी/घंटा

Question ID : 26433075921
Status : Answered
Chosen Option : 2

Q.8 यदि बेलन की त्रिज्या और ऊँचाई क्रमशः 91 m और 2.5 m है, तो बेलन का वक्र पृष्ठीय क्षेत्रफल और कुल पृष्ठीय क्षेत्रफल क्रमशः क्या है? ($\pi = 22/7$ लें)

- Ans
- 1. 1340 m² और 54382 m²
 - 2. 1420 m² और 53582 m²
 - 3. 1430 m² और 53482 m²
 - 4. 2430 m² और 73482 m²

Question ID : 26433085493
Status : Answered
Chosen Option : 3

Q.9 एक छाता Rs.80 में खरीदा जाता है और Rs.68 में बेचा जाता है। हानि का प्रतिशत क्या है?

- Ans
- 1. 15%
 - 2. 12%
 - 3. 13%
 - 4. 14%

Question ID : 26433075143
Status : Answered
Chosen Option : 1

Q.10 एक दुकानदार ने एक मेज के अंकित मूल्य को एक निश्चित राशि के रूप में सूचीबद्ध किया और उसने 10% तथा 10% की दो क्रमिक छूट दीं। यदि दुकानदार ने इसे ₹1,458 रुपये में बेचा, तो अंकित मूल्य _____ है।

- Ans
- 1. ₹1,870
 - 2. ₹1,830
 - 3. ₹1,800
 - 4. ₹1,850

Question ID : 26433090303
Status : Answered
Chosen Option : 3

Q.11 यदि x और y व्युत्क्रमानुपाती हैं और y = 7 होने पर x = 27 है, तो y = 21 होने पर x का मान क्या होगा?

Ans 1. 9

2. 21

3. 7

4. 27

Question ID : 26433079776

Status : Not Answered

Chosen Option : --

Q.12 $\frac{3}{4}, \frac{5}{7}, \frac{7}{9}$ और $\frac{1}{12}$ का महत्तम समापवर्तक क्या होगा?

Ans 1. $\frac{1}{63}$

2. $\frac{1}{126}$

3. $\frac{1}{252}$

4. $\frac{1}{378}$

Question ID : 26433091511

Status : Answered

Chosen Option : 3

Q.13 राहुल ने तीन वर्ष पहले, 10% वार्षिक चक्रवृद्धि ब्याज दर और वार्षिक चक्रवृद्धि आधार पर एक धनराशि उधार ली थी। यदि उस उधार ली गई धनराशि का वर्तमान मूल्य Rs.11,979 है, तो राहुल ने कितनी धनराशि उधार ली थी?

Ans 1. Rs.8,000

2. Rs.9,979

3. Rs.8,979

4. Rs.9,000

Question ID : 26433080340

Status : Answered

Chosen Option : 4

Q.14 20 लोगों का औसत भार 75 kgs है। उनमें से 10 लोगो का औसत भार 70 kgs है। बचे हुए लोगों में से 5 लोगों का औसत भार 75 kgs है। अंत में बचे हुए 5 लोगो का औसत भार ज्ञात करें।

- Ans
- 1. 75 kgs
 - 2. 80 kgs
 - 3. 85 kgs
 - 4. 90 kgs

Question ID : 264330116688
Status : Answered
Chosen Option : 3

Q.15 एक संख्या में 8% की वृद्धि की जाती है और फिर, बढ़ी हुई संख्या में 8% की कमी की जाती है। संख्या में शुद्ध वृद्धि या कमी क्या है?

- Ans
- 1. 0.36% की वृद्धि
 - 2. 0.36% की कमी
 - 3. 0.64% की वृद्धि
 - 4. 0.64% की कमी

Question ID : 26433075968
Status : Answered
Chosen Option : 4

Q.16 एक चोर 40 km/h की चाल से चलते हुए एक निश्चित दूरी को 5 घंटे 15 मिनट में तय करता है। यदि पुलिस उसका पीछा करते हुए समान दूरी 50 km/h की चाल से तय करती है, तो पुलिस उसी दूरी को तय करने में कितना समय लेगी?

- Ans
- 1. 4 घंटे 12 मिनट
 - 2. 5 घंटे 20 मिनट
 - 3. 4 घंटे 50 मिनट
 - 4. 3 घंटे 15 मिनट

Question ID : 26433074996
Status : Answered
Chosen Option : 4

Q.17 यदि A, B और C अलग-अलग कार्य करते हैं, तो वे एक काम क्रमशः 27, 36 और 45 दिन में पूरा कर सकते हैं। यदि वे एक साथ कार्य करते हैं तो काम पूरा करने में कितने दिन लगेंगे?

- Ans
- 1. $15\frac{9}{47}$
 - 2. $10\frac{33}{47}$
 - 3. $13\frac{11}{47}$
 - 4. $11\frac{23}{47}$

Question ID : 26433079891
Status : Answered
Chosen Option : 4

Q.18 राम अपने कमरे की सभी दीवारों और छत को व्यक्तिगत रूप से पेंट करना चाहता है। उसने अपने कमरे को पेंट करना शुरू किया और 16 m² क्षेत्र पेंट करने के बाद, 4 लीटर पेंट का टिन खाली हो गया। यदि पेंट किए जाने वाले उसके कमरे का कुल क्षेत्रफल 176 m² है, तो शेष क्षेत्र को पेंट करने के लिए कितने पेंट के टिन की आवश्यकता होगी?

- Ans
- 1. 20
 - 2. 40
 - 3. 30
 - 4. 10

Question ID : 26433079940
Status : Not Answered
Chosen Option : --

Q.19 उस बेलन के संपूर्ण पृष्ठीय क्षेत्रफल का उसके वक्र पृष्ठीय क्षेत्रफल से अनुपात ज्ञात कीजिए, जिसकी त्रिज्या 20 cm और ऊँचाई 50 cm है।

- Ans
- 1. 3 : 5
 - 2. 5 : 3
 - 3. 7 : 5
 - 4. 5 : 7

Question ID : 26433066327
Status : Answered
Chosen Option : 3

Q.20 A, B से तीन गुना कुशल कारीगर है। A ने कार्य करना शुरू किया और उन्होंने मिलकर एकांतर दिनों में कार्य किया और 24 दिनों में कार्य को पूरा कर दिया। A अकेले कार्य को पूरा करने में कितने दिन लेगा?

- Ans
- 1. 24
 - 2. 21
 - 3. 16
 - 4. 18

Question ID : 26433087394
Status : Not Answered
Chosen Option : --

Section : Part-D-English

Q.1 Select the most appropriate synonym of the given word.

Annoyance

- Ans
- 1. Emotion
 - 2. Agony
 - 3. Anger
 - 4. Hatred

Question ID : 26433088204
Status : Not Answered
Chosen Option : --

Q.2 Select the most appropriate meaning of the given idiom.

Lay hands on

- Ans** ✓ 1. To touch or grasp someone, often with the threat of violence
✗ 2. To give up
✗ 3. To gently lay one's hand on someone
✗ 4. To try new things

Question ID : **26433072223**
Status : **Not Answered**
Chosen Option : --

Q.3 Select the most appropriate synonym of the given word.

Stratified

- Ans** ✓ 1. Laminated
✗ 2. Consolidated
✗ 3. Ungraded
✗ 4. Scattered

Question ID : **26433089099**
Status : **Not Answered**
Chosen Option : --

Q.4 Identify the correctly spelt sentence.

- Ans** ✗ 1. Human persunality is clasified into three types- introvert, extrovert and ambivert.
✗ 2. Human persunality is clasifide into three types- introvert, extrovert and ambivert.
✓ 3. Human persunality is clasified into three types- introvert, extrovert and ambivert.
✗ 4. Human persunality is clasified into three types- introvert, extrovert and ambivert

Question ID : **26433072825**
Status : **Not Answered**
Chosen Option : --

Q.5 Select the most appropriate synonym of the given word.

Gloomy

- Ans** ✗ 1. Hopeful
✗ 2. Blissful
✗ 3. Light
✓ 4. Unhappy

Question ID : **26433072070**
Status : **Not Answered**
Chosen Option : --

Q.6 Select the word segment that substitutes (replaces) the bracketed word segment correctly and completes the sentence meaningfully:
Distribute these fruits and desserts (WITHIN) the girls, the boys and the teachers.

- Ans 1. among
 2. for
 3. across
 4. in

Question ID : 264330101434
Status : Not Answered
Chosen Option : --

Q.7 Select the most appropriate option that can substitute the underlined segment in the given sentence.

My boss have insured me that my salary will be credited next week.

- Ans 1. has cautioned
 2. has assured
 3. had entrusted
 4. have ensured

Question ID : 26433088162
Status : Not Answered
Chosen Option : --

Q.8 Select the most appropriate ANTONYM of the underlined word in the following sentence.

My brother became very frail after his long sickness.

- Ans 1. Violent
 2. Feeble
 3. Strong
 4. Docile

Question ID : 26433072242
Status : Not Answered
Chosen Option : --

Q.9 Select the most appropriate synonym to substitute the underlined word in the given sentence.

The strict measures employed by the government ensured there was peace.

- Ans 1. valiant
 2. orthodox
 3. austere
 4. liberal

Question ID : 26433074018
Status : Not Answered
Chosen Option : --

Q.10 The following sentence has been split into four segments. Identify the segment that contains a grammatical error.
They have / always take / an hour's walk / before breakfast.

- Ans
- 1. always take
 - 2. They have
 - 3. an hour's walk
 - 4. before breakfast

Question ID : 26433099633
Status : Not Answered
Chosen Option : --

Q.11 Select the correct idiom that can substitute the italicised group of words in the given sentence.

To succeed in competitive exams is not *an easy task*.

- Ans
- 1. cat's paw
 - 2. a black sheep
 - 3. child's play
 - 4. a bed of thorns

Question ID : 26433084760
Status : Not Answered
Chosen Option : --

Q.12 Select the most appropriate ANTONYM of the given word.

Obvious

- Ans
- 1. Ambiguous
 - 2. Apparent
 - 3. Inherent
 - 4. Evident

Question ID : 26433092072
Status : Not Answered
Chosen Option : --

Q.13 Select the most appropriate option that can substitute the underlined segment in the given sentence. If there is no need to substitute it, select 'No substitution'.

Henry worked for a few years as a sargent in the army.

- Ans
- 1. sergant
 - 2. sergeant
 - 3. sergent
 - 4. No substitution

Question ID : 26433074005
Status : Not Answered
Chosen Option : --

Q.14 Select the most appropriate ANTONYM of the given word.

Enormous

- Ans 1. Negligible
 2. Stumble
 3. Enjoyable
 4. Mammoth

Question ID : 26433092069
Status : Not Answered
Chosen Option : --

Q.15 Select the most appropriate option that can substitute the underlined segment in the given sentence.

Josephine confessed that she couldn't stand another hour out daylight.

- Ans 1. couldn't wait another hour from
 2. couldn't stand another hour of
 3. couldn't stand another hour for
 4. couldn't stand other hour in

Question ID : 26433091967
Status : Not Answered
Chosen Option : --

Comprehension:

In the following passage, some words have been deleted. Read the passage carefully and select the most appropriate option to fill in each blank.

Inevitably, my approach will often be a personal one; how the idea grew in my mind, what shapes it took, how it (1) _____ me and affected my action. There will also be some (2) _____ personal experiences which have nothing to do with the subject in its wider aspects, but which coloured my mind and influenced my approach to the whole problem. Our judgments of countries and peoples are based on many factors; among them our personal contacts, if there have been any, have a (3) _____ influence. If we do not personally know the people of a country we are apt to misjudge them even (4) _____ than otherwise, and (5) _____ them entirely alien and different.

SubQuestion No : 16

Q.16 Select the most appropriate option to fill in blank number 1.

- Ans 1. will influence
 2. is influenced
 3. influenced
 4. is influencing

Question ID : 26433092117
Status : Not Answered
Chosen Option : --

Comprehension:

In the following passage, some words have been deleted. Read the passage carefully and select the most appropriate option to fill in each blank.

Inevitably, my approach will often be a personal one; how the idea grew in my mind, what shapes it took, how it (1) _____ me and affected my action. There will also be some (2) _____ personal experiences which have nothing to do with the subject in its wider aspects, but which coloured my mind and influenced my approach to the whole problem. Our judgments of countries and peoples are based on many factors; among them our personal contacts, if there have been any, have a (3) _____ influence. If we do not personally know the people of a country we are apt to misjudge them even (4) _____ than otherwise, and (5) _____ them entirely alien and different.

SubQuestion No : 17

Q.17 Select the most appropriate option to fill in blank number 2.

- Ans** ✓ 1. entirely
 ✗ 2. entirety
 ✗ 3. entire
 ✗ 4. untiredly

Question ID : 26433092118
Status : Not Answered
Chosen Option : --

Comprehension:

In the following passage, some words have been deleted. Read the passage carefully and select the most appropriate option to fill in each blank.

Inevitably, my approach will often be a personal one; how the idea grew in my mind, what shapes it took, how it (1) _____ me and affected my action. There will also be some (2) _____ personal experiences which have nothing to do with the subject in its wider aspects, but which coloured my mind and influenced my approach to the whole problem. Our judgments of countries and peoples are based on many factors; among them our personal contacts, if there have been any, have a (3) _____ influence. If we do not personally know the people of a country we are apt to misjudge them even (4) _____ than otherwise, and (5) _____ them entirely alien and different.

SubQuestion No : 18

Q.18 Select the most appropriate option to fill in blank number 3.

- Ans** ✓ 1. marked
 ✗ 2. marks
 ✗ 3. mark
 ✗ 4. marking

Question ID : 26433092119
Status : Not Answered
Chosen Option : --

Comprehension:

In the following passage, some words have been deleted. Read the passage carefully and select the most appropriate option to fill in each blank.

Inevitably, my approach will often be a personal one; how the idea grew in my mind, what shapes it took, how it (1) _____ me and affected my action. There will also be some (2) _____ personal experiences which have nothing to do with the subject in its wider aspects, but which coloured my mind and influenced my approach to the whole problem. Our judgments of countries and peoples are based on many factors; among them our personal contacts, if there have been any, have a (3) _____ influence. If we do not personally know the people of a country we are apt to misjudge them even (4) _____ than otherwise, and (5) _____ them entirely alien and different.

SubQuestion No : 19

Q.19 Select the most appropriate option to fill in blank number 4.

- Ans
- 1. most
 - 2. much
 - 3. more
 - 4. very much

Question ID : 26433092120
Status : Not Answered
Chosen Option : --

Comprehension:

In the following passage, some words have been deleted. Read the passage carefully and select the most appropriate option to fill in each blank.

Inevitably, my approach will often be a personal one; how the idea grew in my mind, what shapes it took, how it (1) _____ me and affected my action. There will also be some (2) _____ personal experiences which have nothing to do with the subject in its wider aspects, but which coloured my mind and influenced my approach to the whole problem. Our judgments of countries and peoples are based on many factors; among them our personal contacts, if there have been any, have a (3) _____ influence. If we do not personally know the people of a country we are apt to misjudge them even (4) _____ than otherwise, and (5) _____ them entirely alien and different.

SubQuestion No : 20

Q.20 Select the most appropriate option to fill in blank number 5.

- Ans
- 1. considered
 - 2. consider
 - 3. had considered
 - 4. to consider

Question ID : 26433092121
Status : Not Answered
Chosen Option : --

Q.1 पवन तेज गति से चल रही है।
उपरोक्त वाक्य के रेखांकित पद का पर्यायवाची किस विकल्प में है?

- Ans
- 1. मोषक
 - 2. दुश्मन
 - 3. अयन
 - 4. मृगवाहन

Question ID : 26433079183
Status : Not Answered
Chosen Option : --

Q.2 निम्न वाक्यांश के लिए एक शब्द क्या होगा?
जो सब कुछ जानता है

- Ans
- 1. समान
 - 2. सर्वस्व
 - 3. सामाजिक
 - 4. सर्वज्ञ

Question ID : 26433070090
Status : Answered
Chosen Option : 4

Q.3 निम्नलिखित वाक्य का शुद्ध रूप किस वाक्य में लिखा गया है?
'गोपाल ने रसगुल्ले या जलेबी खाया।'

- Ans
- 1. गोपाल ने रसगुल्ला या जलेबी खायीं।
 - 2. गोपाल ने रसगुल्ले या जलेबी खाए।
 - 3. गोपाल ने रसगुल्ला या जलेबी खायी।
 - 4. गोपाल ने रसगुल्ला या जलेबी खाया।

Question ID : 26433079236
Status : Answered
Chosen Option : 4

Q.4 एक साथ प्रयुक्त होने वाला कौन-सा समानार्थी शब्द निम्न वाक्य के लिए उपयुक्त होगा?
साधु संत _____ भोजन से खूब संतुष्ट होते हैं।

- Ans
- 1. मांस - मछली
 - 2. शाक - भाजी
 - 3. घिसा - पिटा
 - 4. घास - पात

Question ID : 26433079244
Status : Answered
Chosen Option : 3

Q.5 'यज्ञशाला _____।' उपर्युक्त वाक्य में रिक्त स्थान के लिए उपयुक्त विकल्प निम्न में से क्या होगा?

- Ans
- 1. वह स्थान है, जहां न्याय किया जाता है
 - 2. वह स्थान है, जहां हवन किया जाता है
 - 3. वह स्थान है, जहां बैठकर चर्चा होती है
 - 4. वह स्थान है, जहां व्यायाम होता है

Question ID : 26433067047
Status : Answered
Chosen Option : 2

Q.6 दिए गए वाक्य में रेखांकित अंश के स्थान पर सबसे उपयुक्त विकल्प कौन-सा होगा? दुर्गा के अनेकों नाम हैं।

- Ans
- 1. अनेक
 - 2. लाखों
 - 3. बहुतों
 - 4. करोड़ों

Question ID : 26433066717
Status : Answered
Chosen Option : 1

Q.7 निम्नलिखित वाक्य के किस शब्द में अशुद्धि है? दिल्ली से जयपूर तक चौड़ी सड़क है।

- Ans
- 1. सड़क
 - 2. दिल्ली
 - 3. चौड़ी
 - 4. जयपूर

Question ID : 26433066752
Status : Answered
Chosen Option : 4

Q.8 'अपने मुंह _____ बनना' इस मुहावरे को पूरा करें।

- Ans
- 1. अच्छा
 - 2. चालाक
 - 3. सुंदर
 - 4. मियां मिट्टू

Question ID : 26433066818
Status : Answered
Chosen Option : 4

Q.9 निम्न में से किस वाक्य में 'निजी' के सही पर्यायवाची शब्द का प्रयोग हुआ है?

- Ans 1. आज प्रत्येक व्यक्ति वैयक्तिक लाभ के पीछे दौड़ रहा है।
 2. विनय अत्यंत सभ्य है।
 3. राघव सामाजिक कार्यों में रूचि लेता है।
 4. इस प्रकार के कार्यों से ही देश का सर्वांगीण विकास होगा।

Question ID : 26433067012
Status : Answered
Chosen Option : 1

Q.10 "अभ्युदय दिल्ली की किताबें लाकर पढ़ता है।"

उपरोक्त वाक्य में कारक सम्बन्धी त्रुटि पहचानकर निम्नलिखित में से शुद्ध वाक्य का चयन कीजिए।

- Ans 1. अभ्युदय दिल्ली के किताबें लाकर पढ़ता है।
 2. अभ्युदय दिल्ली से किताबें लाकर पढ़ता है।
 3. अभ्युदय दिल्ली पर किताबें लाकर पढ़ता है।
 4. अभ्युदय दिल्ली को किताबें लाकर पढ़ता है।

Question ID : 26433066966
Status : Answered
Chosen Option : 2

Q.11 'वह गाड़ी के पास सो रहा है।'

अनिश्चयवाचक सर्वनाम का प्रयोग कर इस वाक्य को पुनः लिखिए।

- Ans 1. कोई गाड़ी के पास सो रहा है।
 2. वह स्वयं गाड़ी के पास सो रहा है।
 3. वे गाड़ी के पास सो रहे हैं।
 4. कौन गाड़ी के पास सो रहा है?

Question ID : 26433066979
Status : Answered
Chosen Option : 1

Q.12 'बिना पलक गिराए' वाक्यांश के लिए सार्थक शब्द है-

- Ans 1. निद्रा
 2. अपलक
 3. बंधक
 4. पलक

Question ID : 26433062229
Status : Answered
Chosen Option : 2

Q.13 दिए गए मुहावरे में रेखांकित अंश के स्थान पर सबसे उपयुक्त विकल्प कौन-सा होगा?
गज भर की मकान होना।

- Ans
- 1. दुकान
 - 2. जुबान
 - 3. पहचान
 - 4. दीवार

Question ID : 26433066742
Status : Not Answered
Chosen Option : --

Q.14 'असफल' का विलोम शब्द क्या होगा?

- Ans
- 1. सफल
 - 2. विगत
 - 3. निष्फल
 - 4. विफल

Question ID : 26433085078
Status : Answered
Chosen Option : 1

Q.15 निम्नलिखित में से कौन सा शब्द भाववाचक संज्ञा नहीं है?

- Ans
- 1. आलस्य
 - 2. समृद्धि
 - 3. सजावट
 - 4. लघुता

Question ID : 26433085027
Status : Answered
Chosen Option : 4

Comprehension:

निम्न गद्यांश के आधार पर प्रश्न संख्या 1-5 के उत्तर दीजिए।
दूर संचार के साधनों को 1. _____ कहा जाता है। किसी भी देश के 2. _____ दूरसंचार के विकसित साधनों की अहम भूमिका रहती है। 3. _____ को जल्दी-से-जल्दी भेजने या प्राप्त करने के लिए मनुष्य पुरातन काल से ही साधन खोजता आ रहा है। पुरातन काल में संदेश भेजने के लिए हम 4. _____ सहायता लिया करते थे। कवियों की कल्पना के संदेशवाहक मेघ व चंद्रमा थे। समय के परिवर्तन के फलस्वरूप विज्ञान के क्षेत्र में आई क्रांति के कारण कबूतरों के स्थान पर आकाश में 5. _____ उड़ने लगे, ऊँट एवं घोड़ों का स्थान रेल एवं मोटर गाड़ियों ने ले लिया, मेघदूत के स्थान पर प्रयोग की जाने लगी रेडियो व सूक्ष्म तरंगें तथा चंद्रमा का स्थान ले लिया कृत्रिम उपग्रहों ने।

SubQuestion No : 16

Q.16 गद्यांश में दिए गए रिक्त स्थान 1 के लिए सर्वाधिक उपयुक्त शब्द का चयन विकल्पों में से कीजिए।

- Ans
- 1. 'बेईमान व्यक्ति'
 - 2. 'ईमानदार व्यक्ति'
 - 3. 'सबका साथ'
 - 4. 'वर्तमान समाज का स्नायुतंत्र'

Question ID : 26433086293
Status : Answered
Chosen Option : 4

Comprehension:

निम्न गद्यांश के आधार पर प्रश्न संख्या 1-5 के उत्तर दीजिए।
दूर संचार के साधनों को 1. _____ कहा जाता है। किसी भी देश के 2. _____ दूरसंचार के विकसित साधनों की अहम भूमिका रहती है। 3. _____ को जल्दी-से-जल्दी भेजने या प्राप्त करने के लिए मनुष्य पुरातन काल से ही साधन खोजता आ रहा है। पुरातन काल में संदेश भेजने के लिए हम 4. _____ सहायता लिया करते थे। कवियों की कल्पना के संदेशवाहक मेघ व चंद्रमा थे। समय के परिवर्तन के फलस्वरूप विज्ञान के क्षेत्र में आई क्रांति के कारण कबूतरों के स्थान पर आकाश में 5. _____ उड़ने लगे, ऊँट एवं घोड़ों का स्थान रेल एवं मोटर गाड़ियों ने ले लिया, मेघदूत के स्थान पर प्रयोग की जाने लगी रेडियो व सूक्ष्म तरंगें तथा चंद्रमा का स्थान ले लिया कृत्रिम उपग्रहों ने।

SubQuestion No : 17

Q.17 गद्यांश में दिए गए रिक्त स्थान 2 के लिए सर्वाधिक उपयुक्त शब्द का चयन विकल्पों में से कीजिए।

- Ans
- 1. साहित्यिक परिवेश
 - 2. सामाजिक भूमिका
 - 3. समसामयिक परिवेश
 - 4. आर्थिक विकास में

Question ID : 26433086294

Status : Answered

Chosen Option : 4

Comprehension:

निम्न गद्यांश के आधार पर प्रश्न संख्या 1-5 के उत्तर दीजिए।
दूर संचार के साधनों को 1. _____ कहा जाता है। किसी भी देश के 2. _____ दूरसंचार के विकसित साधनों की अहम भूमिका रहती है। 3. _____ को जल्दी-से-जल्दी भेजने या प्राप्त करने के लिए मनुष्य पुरातन काल से ही साधन खोजता आ रहा है। पुरातन काल में संदेश भेजने के लिए हम 4. _____ सहायता लिया करते थे। कवियों की कल्पना के संदेशवाहक मेघ व चंद्रमा थे। समय के परिवर्तन के फलस्वरूप विज्ञान के क्षेत्र में आई क्रांति के कारण कबूतरों के स्थान पर आकाश में 5. _____ उड़ने लगे, ऊँट एवं घोड़ों का स्थान रेल एवं मोटर गाड़ियों ने ले लिया, मेघदूत के स्थान पर प्रयोग की जाने लगी रेडियो व सूक्ष्म तरंगें तथा चंद्रमा का स्थान ले लिया कृत्रिम उपग्रहों ने।

SubQuestion No : 18

Q.18 गद्यांश में दिए गए रिक्त स्थान 3 के लिए सर्वाधिक उपयुक्त शब्द का चयन विकल्पों में से कीजिए।

- Ans
- 1. सूचनाओं/समाचारों
 - 2. आकलन/प्राकलन
 - 3. संकल्प/विकल्प
 - 4. रिक्तियों/विकल्पों

Question ID : 26433086295

Status : Answered

Chosen Option : 1

Comprehension:

निम्न गद्यांश के आधार पर प्रश्न संख्या 1-5 के उत्तर दीजिए।
दूर संचार के साधनों को 1. _____ कहा जाता है। किसी भी देश के 2. _____ दूरसंचार के विकसित साधनों की अहम भूमिका रहती है। 3. _____ को जल्दी-से-जल्दी भेजने या प्राप्त करने के लिए मनुष्य पुरातन काल से ही साधन खोजता आ रहा है। पुरातन काल में संदेश भेजने के लिए हम 4. _____ सहायता लिया करते थे। कवियों की कल्पना के संदेशवाहक मेघ व चंद्रमा थे। समय के परिवर्तन के फलस्वरूप विज्ञान के क्षेत्र में आई क्रांति के कारण कबूतरों के स्थान पर आकाश में 5. _____ उड़ने लगे, ऊँट एवं घोड़ों का स्थान रेल एवं मोटर गाड़ियों ने ले लिया, मेघदूत के स्थान पर प्रयोग की जाने लगी रेडियो व सूक्ष्म तरंगें तथा चंद्रमा का स्थान ले लिया कृत्रिम उपग्रहों ने।

SubQuestion No : 19

Q.19 गद्यांश में दिए गए रिक्त स्थान 4 के लिए सर्वाधिक उपयुक्त शब्द का चयन विकल्पों में से कीजिए।

- Ans
- 1. फोन/मोबाईल
 - 2. इन्टरनेट/सोशल मीडिया
 - 3. कबूतर, ऊँट, घोड़ों तथा अन्य जानवरों की
 - 4. आवाज देकर/ बुलाकर

Question ID : 26433086296

Status : Answered

Chosen Option : 3

Comprehension:

निम्न गद्यांश के आधार पर प्रश्न संख्या 1-5 के उत्तर दीजिए।
दूर संचार के साधनों को 1. _____ कहा जाता है। किसी भी देश के 2. _____ दूरसंचार के विकसित साधनों की अहम भूमिका रहती है। 3. _____ को जल्दी-से-जल्दी भेजने या प्राप्त करने के लिए मनुष्य पुरातन काल से ही साधन खोजता आ रहा है। पुरातन काल में संदेश भेजने के लिए हम 4. _____ सहायता लिया करते थे। कवियों की कल्पना के संदेशवाहक मेघ व चंद्रमा थे। समय के परिवर्तन के फलस्वरूप विज्ञान के क्षेत्र में आई क्रांति के कारण कबूतरों के स्थान पर आकाश में 5. _____ उड़ने लगे, ऊँट एवं घोड़ों का स्थान रेल एवं मोटर गाड़ियों ने ले लिया, मेघदूत के स्थान पर प्रयोग की जाने लगी रेडियो व सूक्ष्म तरंगें तथा चंद्रमा का स्थान ले लिया कृत्रिम उपग्रहों ने।

SubQuestion No : 20

Q.20 गद्यांश में दिए गए रिक्त स्थान 5 के लिए सर्वाधिक उपयुक्त शब्द का चयन विकल्पों में से कीजिए।

- Ans
- 1. बस
 - 2. वायुयान
 - 3. ट्रैक्टर
 - 4. बैलगाड़ी

Question ID : 26433086297

Status : Answered

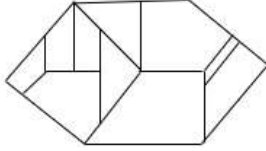
Chosen Option : 2

Constable GD in CAPFs SSF Rifleman GD in Assam Rifles and Sepoy in NCB Examination 2022

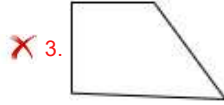

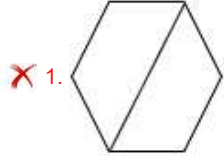
Roll Number	KD Job Updates
Candidate Name	KD Job Updates
Venue Name	iON Digital Zone iDZ 1 Patliputra
Exam Date	25/01/2023
Exam Time	5:15 PM - 6:15 PM
Subject	Constable GD Examination 2022

Section : Part-A-General Intelligence and Reasoning

Q.1 वह विकल्प चित्र चुनिए, जो प्रस्तुत चित्र में अंतर्निहित है। (घुमाना अनुमन्य नहीं है)



Ans



KD Job Updates

Question ID : 26433069347

Status : Answered

Chosen Option : 4

Q.2 इस प्रश्न में तीन कथन दिए गए हैं, जिसके बाद दो निष्कर्ष I और II दिए गए हैं। कथनों को सत्य मानते हुए, भले ही वे सर्वज्ञात तथ्यों से भिन्न प्रतीत होते हों, निर्णय कीजिए कि कौन-सा/से निष्कर्ष कथनों का तार्किक रूप से अनुसरण करता है/अनुसरण करते हैं।

कथन:

कुछ फ्लैट घर हैं।

सभी घर इमारतें हैं।

सभी इमारतें बगीचे हैं।

निष्कर्ष:

I. कुछ फ्लैट बगीचे हैं।

II. सभी फ्लैट इमारतें हैं।

- Ans
- 1. निष्कर्ष I और II दोनों अनुसरण करते हैं।
 - 2. न तो निष्कर्ष I और न ही II अनुसरण करता है।
 - 3. केवल निष्कर्ष II अनुसरण करता है।
 - 4. केवल निष्कर्ष I अनुसरण करता है।

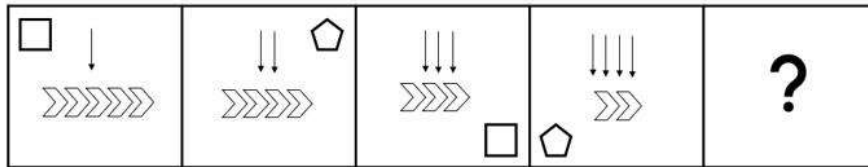
Question ID : 26433070380

Status : Answered

Chosen Option : 4

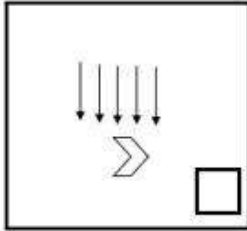
KD Job Updates

Q.3 उस आकृति का चयन करें, जो निम्न आकृति श्रृंखला में आगे आएगी।

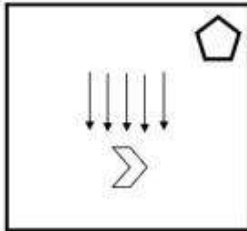


Ans

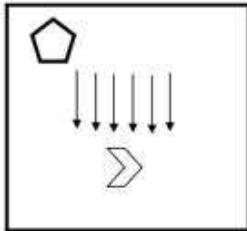
✗ 1.



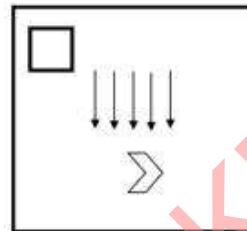
✗ 2.



✗ 3.



✓ 4.

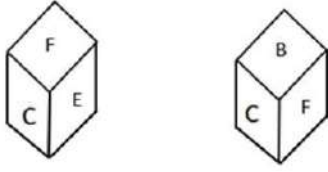


KD Job Updates

Question ID : 26433076495
 Status : Answered
 Chosen Option : 4

Q.4 एक ही पासे की दो अलग-अलग स्थितियों को दर्शाया गया है जिस पर 'A' से 'F' तक के वर्णाक्षर बने हैं। 'E'

दर्शाने वाले फलक के विपरीत फलक पर स्थित वर्णाक्षर ज्ञात कीजिए।



- Ans
- 1. D
 - 2. C
 - 3. B
 - 4. A

Question ID : 26433085512

Status : Answered

Chosen Option : 3

Q.5 यदि '\$' का अर्थ है 'जोड़', '@' का अर्थ है 'घटाव', '#' का अर्थ है 'गुणा' और '&' का अर्थ है 'भाग', तो निम्नलिखित अभिव्यक्ति का मान क्या होगा?

54 & 6 # 2 \$ 8 @ 4

- Ans
- 1. 22
 - 2. 30
 - 3. 23
 - 4. 29

Question ID : 264330114183

Status : Answered

Chosen Option : 1

Q.6 'D + E' का अर्थ है 'D, E की बहन है'।

'D - E' का अर्थ है 'D, E का पति है'।

'D × E' का अर्थ है 'D, E का पिता है'।

'D ÷ E' का अर्थ है 'D, E की पुत्री है'।

यदि, $L \div R + T \div W - M$ है, तो T, L से किस प्रकार संबंधित है?

- Ans
- 1. मौसी
 - 2. भांजी
 - 3. माँ
 - 4. पुत्री

Question ID : 26433069175

Status : Answered

Chosen Option : 1

Q.7 निम्नलिखित में से कौन-सी संख्या दी गई श्रृंखला में प्रश्न-चिह्न (?) का स्थान लेगी?
5, 8, 16, 19, 38, ?, 82

- Ans 1. 46
 2. 41
 3. 76
 4. 69

Question ID : 26433068094
Status : Answered
Chosen Option : 2

Q.8 P, Q, R, S, T और U एक वृत्ताकार स्थिति में केंद्र के विपरीत दिशा की ओर मुख करके बैठे हैं। S, R के दाईं ओर ठीक बगल में, और U के बाईं ओर ठीक बगल में बैठा है। Q, R और P के बीच में बैठा है। T, U के दाईं ओर ठीक बगल में, और P के बाईं ओर ठीक बगल में बैठा है। P के दाईं ओर ठीक बगल में कौन बैठा है?

- Ans 1. T
 2. Q
 3. S
 4. R

Question ID : 26433074611
Status : Answered
Chosen Option : 2

Q.9 एक निश्चित भाषा में COFFEE को 12 और FOUR को 8 के रूप में कूटबद्ध किया जाता है। इसी भाषा में ANDROID को किस प्रकार कूटबद्ध किया जाएगा?

- Ans 1. 65
 2. 10
 3. 7
 4. 14

Question ID : 26433074590
Status : Answered
Chosen Option : 4

Q.10 उस विकल्प का चयन करें जो पांचवें अक्षर-समूह से उसी प्रकार संबंधित है जिस प्रकार दूसरा अक्षर-समूह पहले अक्षर-समूह से संबंधित है और चौथा अक्षर-समूह तीसरे अक्षर-समूह से संबंधित है।
MUSIC : NFHRX:: DANCE : WZMXV:: CONCERT : ?

- Ans 1. XLVIMXG
 2. XLMXVIG
 3. XMXVIGL
 4. XLVIGMX

Question ID : 26433070325
Status : Answered
Chosen Option : 2

Q.11 उस विकल्प का चयन करें जो पांचवें अक्षर-समूह से उसी प्रकार संबंधित है जिस प्रकार दूसरा अक्षर-समूह पहले अक्षर-समूह से संबंधित है और चौथा अक्षर-समूह तीसरे अक्षर-समूह से संबंधित है।
HELLO : QNNGJ :: NAMASTE : GVUCOCP :: SALAM : ?

- Ans
- 1. OCMBT
 - 2. OCNCU
 - 3. UCNCO
 - 4. OCNBU

Question ID : 26433057246

Status : Answered

Chosen Option : 2

Q.12 एक निश्चित कूट भाषा में, 'the shirt is dirty' को '3525' के रूप में कूटबद्ध किया जाता है, 'exercise regularly' को '89' के रूप में कूटबद्ध किया जाता है और 'comb your hair' को '444' के रूप में कूटबद्ध किया जाता है। उसी भाषा में 'empty your vessel' को किस प्रकार कूटबद्ध किया जाएगा?

- Ans
- 1. 456
 - 2. 657
 - 3. 654
 - 4. 546

Question ID : 26433067778

Status : Answered

Chosen Option : 4

Q.13 किस विकल्प में निम्नलिखित शब्दों का वह क्रम दिया गया है, जिस क्रम में वे अंग्रेजी शब्दकोश में आते हैं?

- 1 Pollution
- 2 Popular
- 3 Population
- 4 Pocket
- 5 Pool

- Ans
- 1. 4,1,3,2,5
 - 2. 4,5,1,2,3
 - 3. 4,5,3,2,1
 - 4. 4,1,5,2,3

Question ID : 26433069271

Status : Answered

Chosen Option : 4

Q.14 पाँच मित्र S, U, K, N और M एक वृताकार मेज के चारों ओर केंद्र की ओर मुख करके बैठे हैं। K, S और M के ठीक बगल में बैठा है। S, U के ठीक बगल में नहीं है। N, M के ठीक बगल में नहीं है। K और N के ठीक बगल में कौन बैठा है?

- Ans
- 1. U
 - 2. M
 - 3. S
 - 4. N

Question ID : 26433068076

Status : Answered

Chosen Option : 3

Q.15 नीचे दिए गए समीकरण को गणितीय रूप से सही बनाने के लिए किन दो चिन्हों को परस्पर बदलना चाहिए?

$$26 - 13 + 18 \div 54 \times 24 = 31$$

- Ans
- 1. \times और \div
 - 2. $-$ और \times
 - 3. $+$ और \div
 - 4. $-$ और $+$

Question ID : 264330117503

Status : Answered

Chosen Option : 4

Q.16 दिए गए विकल्पों में से उस अक्षर-समूह का चयन कीजिए, जो निम्नलिखित श्रृंखला में प्रश्न-चिह्न (?) को प्रतिस्थापित कर सकता है।
PQHI, ?, TULM, VWNO

- Ans
- 1. RSCD
 - 2. XYJK
 - 3. NOFG
 - 4. RSJK

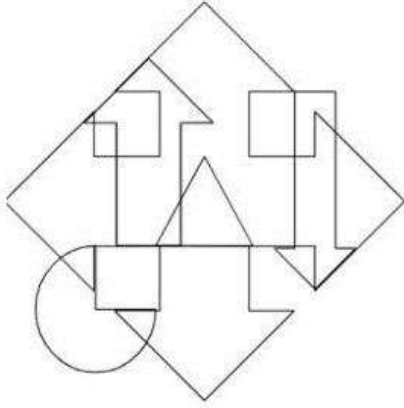
Question ID : 26433068350

Status : Answered

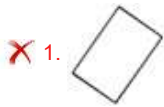
Chosen Option : 4

KD Job Updates

Q.17 उस विकल्प आकृति का चयन करें जो नीचे दी गई आकृति में अंतर्निहित है।
(आकृति घुमाने की अनुमति नहीं है)



Ans



Question ID : 26433085753

Status : Answered

Chosen Option : 2

Q.18 निम्नलिखित में से कौन-सी संख्या दी गई श्रृंखला में प्रश्न-चिह्न (?) के स्थान पर आएगी?
100, 80, 63, 49, 38, 30, ?

Ans ✗ 1. 27

✗ 2. 22

✗ 3. 24

✓ 4. 25

Question ID : 26433069049

Status : Answered

Chosen Option : 4

Q.19 उस समुच्चय का चयन करें, जिसमें संख्याएँ उसी प्रकार संबंधित हैं, जिस प्रकार निम्नलिखित समुच्चयों की संख्याएँ हैं।
(नोट: संख्याओं को उसके घटक अंकों में विभाजित किए बिना, पूर्ण संख्याओं पर ही गणितीय संक्रियाएँ की जानी चाहिए। जैसे 13 - मान लीजिए 13 पर गणितीय संक्रियाएँ जैसे कि 13 में जोड़ना/घटाना/गुणा करना आदि किया जा सकता है। 13 को 1 और 3 में तोड़कर और फिर 1 और 3 पर गणितीय संक्रियाएँ करने की अनुमति नहीं है।)
(174, 14, 15)
(228, 24, 14)

- Ans
- 1. (192, 20, 13)
 - 2. (384, 45, 19)
 - 3. (180, 17, 15)
 - 4. (334, 16, 23)

Question ID : 26433076474
Status : Not Answered
Chosen Option : --

Q.20 निम्नलिखित में से कौन-सा अक्षर-समूह नीचे दी गई अक्षर-समूह श्रृंखला में प्रश्न-चिह्न (?) के स्थान पर आकर श्रृंखला को पूर्ण करेगा?
KU, NT, PS, SR, UQ, ?

- Ans
- 1. YP
 - 2. XQ
 - 3. YQ
 - 4. XP

Question ID : 26433067285
Status : Answered
Chosen Option : 4

Section : Part-B-General Knowledge and General awareness

Q.1 Plants that do not have well-differentiated body design fall in this group. The plants in this group are commonly called algae. This group is _____.

- Ans
- 1. Pteridophytes
 - 2. Gymnosperms
 - 3. Bryophytes
 - 4. Thallophytes

Question ID : 264330115185
Status : Answered
Chosen Option : 4

Q.2 Identify the place in India where tropical cyclones originate from.

- Ans
- 1. Pacific ocean
 - 2. Arctic ocean
 - 3. Arabian sea and Pacific ocean
 - 4. Bay of Bengal and Indian ocean

Question ID : 26433086707
Status : Answered
Chosen Option : 3

Q.3 निम्नलिखित में से कौन-सा शब्द 42वें संशोधन के दौरान प्रस्तावना में जोड़ा गया था?

- Ans 1. पंथनिरपेक्ष
 2. स्वतंत्रता
 3. धर्म
 4. राष्ट्र राज्य

Question ID : 26433089179
Status : Answered
Chosen Option : 1

Q.4 प्रधान मंत्री कौशल विकास योजना (PMKVY) _____ की प्रमुख योजना है।

- Ans 1. वाणिज्य एवं उद्योग मंत्रालय
 2. कृषि एवं किसान कल्याण मंत्रालय
 3. सूक्ष्म, लघु एवं मध्यम उद्यम मंत्रालय (MSME)
 4. कौशल विकास एवं उद्यमशीलता मंत्रालय

Question ID : 264330116160
Status : Answered
Chosen Option : 4

Q.5 Pick the odd one out (Hint: Millets)

- Ans 1. Jowar
 2. Potato
 3. Ragi
 4. Bajra

Question ID : 264330115537
Status : Answered
Chosen Option : 2

Q.6 मेदराम जात्रा महोत्सव कोया जनजाति द्वारा मनाया जाने वाला एक ____-दिवसीय त्यौहार है।

- Ans 1. 5
 2. 4
 3. 3
 4. 2

Question ID : 264330115088
Status : Not Answered
Chosen Option : --

Q.7 भारत में योजना आयोग की स्थापना किस वर्ष की गई थी?

- Ans 1. 1960
 2. 1955
 3. 1947
 4. 1950

Question ID : 264330116113
Status : Answered
Chosen Option : 2

Q.8 प्रथम पंचवर्षीय योजना में _____ मॉडल का पालन किया गया था।

- Ans
- 1. एकीकरण
 - 2. महालनोबिस
 - 3. पूंजी
 - 4. हेरोड-डोमर

Question ID : 264330115368
Status : Answered
Chosen Option : 2

Q.9 अक्टूबर 2022 में, जम्मू-कश्मीर और लद्दाख के नए मुख्य न्यायाधीश के रूप में किसे नियुक्त किया गया है?

- Ans
- 1. न्यायमूर्ति अली मोहम्मद मागरे
 - 2. न्यायमूर्ति पंकज मित्तल
 - 3. न्यायमूर्ति जयश्री ठाकुर
 - 4. न्यायमूर्ति प्रसन्ना भालचंद्र वराले

Question ID : 264330114993
Status : Not Answered
Chosen Option : --

Q.10 _____ के जन्मदिवस के अवसर पर अभिनंदन सरोजा राष्ट्रीय पुरस्कार शुरू किया गया था।

- Ans
- 1. पद्म भूषण सरोजा मूर्ति
 - 2. पद्म भूषण सरोजा नायर
 - 3. पद्म भूषण सरोजा वैद्यनाथन
 - 4. पद्मश्री सरोजा विश्वनाथ

Question ID : 264330115814
Status : Not Answered
Chosen Option : --

Q.11 ऋग्वेद के मंत्रों के समूह _____ कहलाते हैं।

- Ans
- 1. सूक्त
 - 2. सूत्र
 - 3. यामी
 - 4. अध्याय

Question ID : 26433089849
Status : Answered
Chosen Option : 1

Q.12 निम्नलिखित में से कौन जून 2022 में उत्तर प्रदेश के रामपुर से संसद सदस्य बने?

- Ans
- 1. दिनेश लाल यादव "निरहुआ"
 - 2. योगी आदित्यनाथ
 - 3. घनश्याम सिंह लोधी
 - 4. अखिलेश यादव

Question ID : 264330114902
Status : Answered
Chosen Option : 1

Q.13 भारत में, मुख्य चुनाव आयुक्त की नियुक्ति कौन करता है?

- Ans
- 1. लोकसभा अध्यक्ष
 - 2. राष्ट्रपति
 - 3. प्रधान मंत्री
 - 4. उप-राष्ट्रपति

Question ID : 26433074898
Status : Answered
Chosen Option : 2

Q.14 Which among the following waves is not an electromagnetic wave?

- Ans
- 1. Gamma Rays
 - 2. Cathode Rays
 - 3. Infra-red Rays
 - 4. Ultra Violet Rays

Question ID : 264330115150
Status : Not Answered
Chosen Option : --

Q.15 ग्रीष्मकालीन ओलंपिक खेल 2020 का शुभारम्भ आधिकारिक तौर पर किसने किया?

- Ans
- 1. मिशेल टेमर
 - 2. शी जिनपिंग
 - 3. सम्राट नारुहितो
 - 4. व्लादिमीर पुतिन

Question ID : 264330115951
Status : Not Answered
Chosen Option : --

Q.16 निम्नलिखित में से किस शास्त्रीय नृत्य की उत्पत्ति असम में हुई है?

- Ans
- 1. कथक
 - 2. ओडिसी
 - 3. कुचिपुड़ी
 - 4. सत्रीया

Question ID : 26433072921
Status : Answered
Chosen Option : 4

Q.17 जनगणना 2011 के अनुसार भारत के किस केंद्र शासित प्रदेश की साक्षरता दर सर्वाधिक है?

- Ans
- 1. चंडीगढ़
 - 2. लक्षद्वीप
 - 3. पुदुचेरी
 - 4. दमन और दीव

Question ID : 264330116023
Status : Answered
Chosen Option : 2

Q.18 Which of the following Satyagraha was led by Dr. BR Ambedkar?

- Ans
- 1. Individual Satyagraha
 - 2. Kanpur Satyagraha
 - 3. Mahad Satyagraha
 - 4. Kheda Satyagraha

Question ID : 26433089887
Status : Answered
Chosen Option : 1

Q.19 जनता के/की _____ को ध्यान में रखते हुए सरकार द्वारा सब्सिडी प्रदान की जाती है।

- Ans
- 1. कल्याण
 - 2. पसंद
 - 3. घनत्व
 - 4. प्रकृति

Question ID : 264330115290
Status : Answered
Chosen Option : 1

Q.20 26 फरवरी 2021 को जम्मू और कश्मीर के _____ जिले में 'खेलो इंडिया नेशनल विंटर गेम्स 2021' के दूसरे संस्करण का उद्घाटन किया गया।

- Ans
- 1. रामबन
 - 2. गुलमर्ग
 - 3. कठुआ
 - 4. डोडा

Question ID : 26433072891
Status : Not Answered
Chosen Option : --

Q.1 11, 15, 19 और 25 प्रत्येक में एक निश्चित संख्या जोड़ी जाती है। जोड़ने के बाद, ये संख्याएँ समानुपाती हो जाती हैं। जोड़ी गई संख्या क्या है?

- Ans
- 1. 4
 - 2. 6
 - 3. 5
 - 4. 3

Question ID : 26433075671
Status : Answered
Chosen Option : 3

Q.2 Rs.4,900 की धनराशि पर 2 वर्षों में चक्रवृद्धि ब्याज Rs.725 है, जब ब्याज वार्षिक रूप से चक्रवृद्धि होता है। वार्षिक ब्याज दर ज्ञात कीजिए।

- Ans
- 1. $7\frac{1}{7}\%$
 - 2. $3\frac{1}{2}\%$
 - 3. $9\frac{1}{7}\%$
 - 4. $8\frac{6}{7}\%$

Question ID : 26433064920
Status : Answered
Chosen Option : 1

Q.3 रवि और सुमंत एक कार्य को क्रमशः 40 और 50 दिनों में पूरा कर सकते हैं। यदि वे पहले दिन रवि से शुरू करते हुए एकांतर दिनों में (बारी बारी से) उस पर कार्य करते हैं, तो कार्य कितने दिनों में समाप्त हो जाएगा?

- Ans
- 1. $44\frac{1}{5}$ दिन
 - 2. $44\frac{2}{5}$ दिन
 - 3. $42\frac{2}{5}$ दिन
 - 4. $44\frac{3}{5}$ दिन

Question ID : 26433075245
Status : Answered
Chosen Option : 4

Q.4 एक व्यापारी अपने सभी सामानों पर 8% की छूट देता है और फिर भी 15% का लाभ अर्जित करता है। यदि किसी सामान का अंकित मूल्य ₹250 है, तो उसका क्रय मूल्य क्या होगा?

- Ans
- 1. ₹176
 - 2. ₹185
 - 3. ₹180
 - 4. ₹200

Question ID : 26433076326
Status : Answered
Chosen Option : 4

Q.5 दो दोस्त 720 मीटर के एक वृत्ताकार ट्रैक पर दौड़ रहे हैं। उन्होंने एक ही बिंदु से दौड़ना शुरू किया और समान दिशा में 1.5 मीटर/सेकंड और 3.5 मीटर/सेकंड की चाल से दौड़ रहे हैं। कितने समय बाद वे दूसरी बार एक-दूसरे को पार करेंगे?

- Ans
- 1. 7 मिनट
 - 2. 12 मिनट
 - 3. 3.5 मिनट
 - 4. 10 मिनट

Question ID : 26433073113
Status : Answered
Chosen Option : 4

Q.6 एक विधानसभा चुनाव में, एक उम्मीदवार को कुल वैध मतों का 72% प्राप्त हुआ। कुल मतों में से 1.2% मत अवैध घोषित कर दिए गए। यदि मतदाताओं की कुल संख्या 3,32,000 है, तो उम्मीदवार के पक्ष में डाले गए वैध मतों की संख्या कितनी है? (केवल पूर्ण संख्या में मान लें)

- Ans
- 1. 133666
 - 2. 136188
 - 3. 236171
 - 4. 337877

Question ID : 26433081015
Status : Not Answered
Chosen Option : --

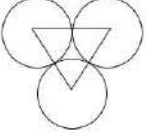
Q.7 एक दुकानदार चावल बेचता है। वह इसे विक्रय मूल्य से 15% कम दर पर खरीदता है। एक महीने में उसकी कुल बिक्री Rs. 5,50,000 है और वह महीने की शुरुआत में दुकान के किराए के रूप में Rs. 8,000 का भुगतान करता है। महीने में उसका लाभ प्रतिशत कितना है?

- Ans
- 1. 17.5%
 - 2. 15.7%
 - 3. 14.5%
 - 4. 12.7%

Question ID : 26433071252
Status : Not Answered
Chosen Option : --

Q.8 दी गई आकृति में, प्रत्येक 3.5 cm त्रिज्या वाले तीन वृत्तों को इस प्रकार रखा गया है कि प्रत्येक वृत्त अन्य दो को स्पर्श करता है।

वृत्तों से घिरे भाग का क्षेत्रफल _____ है। (दशमलव के ठीक दो स्थानों तक) ($\pi = \frac{22}{7}$ लें)



- Ans
- 1. 3.42 cm²
 - 2. 2.34 cm²
 - 3. 1.48 cm²
 - 4. 1.97 cm²

Question ID : 26433075895

Status : Not Answered

Chosen Option : --

Q.9 कृष्ण ने पहली तथा दूसरी वस्तु क्रमशः ₹150 और ₹300 में खरीदीं। उसने पहली वस्तु को 20% लाभ पर और दूसरी वस्तु को 20% हानि पर बेचा। उसका कुल लाभ या हानि प्रतिशत ज्ञात करें। (दो दशमलव स्थान तक पूर्णांकित)

- Ans
- 1. 13.33% हानि
 - 2. 6.67% लाभ
 - 3. 13.33% लाभ
 - 4. 6.67% हानि

Question ID : 26433079925

Status : Answered

Chosen Option : 4

Q.10 एक संख्या 'y' को 225 से विभाजित करने पर शेषफल 33 बचता है। वही संख्या जब 15 से विभाजित की जाती है, तो शेषफल 'z' बचता है। z का मान _____ है।

- Ans
- 1. 4
 - 2. 3
 - 3. 2
 - 4. 1

Question ID : 26433081536

Status : Answered

Chosen Option : 2

Q.11 प्रथम पांच अभाज्य संख्याओं का औसत क्या है?

Ans

✓ 1. $5\frac{3}{5}$

✗ 2. $5\frac{1}{5}$

✗ 3. $5\frac{4}{5}$

✗ 4. $5\frac{2}{5}$

Question ID : 26433079842

Status : Answered

Chosen Option : 1

Q.12 A एक कार्य को 51 दिनों में कर सकता है और B उसी कार्य को 34 दिनों में कर सकता है। समान कार्य को पूरा करने में लगने वाला समय ज्ञात करें यदि वे बारी-बारी से एक-एक दिन कार्य करते हैं तथा A कार्य शुरू करता है।

Ans ✓ 1. 41 दिन

✗ 2. 46 दिन

✗ 3. 42 दिन

✗ 4. 44 दिन

Question ID : 264330116844

Status : Not Answered

Chosen Option : --

Q.13 एक वस्तु का अंकित मूल्य 4000 रुपए था। लेकिन दुकानदार ने 5 प्रतिशत और 7 प्रतिशत की दोहरी छूट दी। उसने अंततः वस्तु को कितने में बेचा?

Ans ✗ 1. 3665 रुपए

✗ 2. 3872 रुपए

✓ 3. 3534 रुपए

✗ 4. 3948 रुपए

Question ID : 264330116729

Status : Answered

Chosen Option : 3

Q.14 संख्याओं 9, 22, 14 और 32 में क्या जोड़ा जाना चाहिए ताकि इस प्रकार प्राप्त संख्याएँ समानुपाती हों जाएँ?

Ans ✗ 1. 5

✗ 2. 6

✓ 3. 4

✗ 4. 3

Question ID : 26433080325

Status : Answered

Chosen Option : 3

Q.15 एक चुनाव में 12% मतदाताओं ने अपना मत नहीं डाला और 2% डाले गए मतों को अमान्य घोषित कर दिया गया। इस चुनाव में केवल दो उम्मीदवार थे। विजेता ने कुल पंजीकृत मतदाताओं के 46% मत प्राप्त करके अपने प्रतिद्वंद्वी को 1,044 मतों से हराया। चुनाव में पंजीकृत मतदाताओं की कुल संख्या ज्ञात करें।

- Ans
- 1. 10440
 - 2. 14400
 - 3. 16750
 - 4. 18125

Question ID : 26433076223
Status : Not Answered
Chosen Option : --

Q.16 यदि एक बेलन की त्रिज्या 7 m है और इसका संपूर्ण पृष्ठीय क्षेत्रफल 440 m^2 है, तो बेलन की ऊँचाई ज्ञात कीजिए। ($\pi = 22/7$ लें)

- Ans
- 1. 3 m
 - 2. 5 m
 - 3. 7 m
 - 4. 4 m

Question ID : 26433076385
Status : Not Answered
Chosen Option : --

Q.17 29 प्रेक्षणों का औसत 40 है। यदि पहले 15 प्रेक्षणों का औसत 38 है, और अंतिम 15 प्रेक्षणों का औसत 45 है, तो 15वां प्रेक्षण क्या है?

- Ans
- 1. 0
 - 2. 29.5
 - 3. 85
 - 4. 30

Question ID : 26433075431
Status : Answered
Chosen Option : 3

Q.18 What is the LCM of two co-prime numbers whose product is 323?

- Ans
- 1. 646
 - 2. 1
 - 3. 323
 - 4. 161.5

Question ID : 26433075049
Status : Answered
Chosen Option : 3

Q.19 रमेश और नरेश एक दूसरे की ओर क्रमशः 26 km/h और 18 km/h की चाल से दौड़ना शुरू करते हैं, वे एक घंटे और 45 मिनट के बाद मिलते हैं। दौड़ना शुरू करते समय वे एक दूसरे से कितनी दूर (मीटर में) थे?

Ans 1. 77000

2. 66000

3. 75000

4. 65000

Question ID : 26433064997

Status : Answered

Chosen Option : 1

Q.20 A sum of P was borrowed and paid back in three equal yearly instalments, each of ₹30,000. If the rate of interest was 5% compounded annually, then the value of P (approximate) is:

Ans 1. ₹80,697

2. ₹80,597

3. ₹81,597

4. ₹81,697

Question ID : 26433079805

Status : Not Answered

Chosen Option : --

Section : Part-D-English

Q.1 Select the most appropriate synonym of the given word.

Adversity

Ans 1. Misfortune

2. Progress

3. Anxiety

4. Allegiance

Question ID : 26433073430

Status : Answered

Chosen Option : 2

Q.2 Identify the correctly spelt sentence.

Ans 1. It is believed that a caterpillar can become a butterfly.

2. It is believed that a caterpillar can become a butterfly.

3. It is believed that a catarpillar can become a butterfly.

4. It is believed that a catterpillar can become a butterfly.

Question ID : 26433072830

Status : Answered

Chosen Option : 1

Q.3 Select the most appropriate ANTONYM of the given word.

Quietness

- Ans 1. Kindness
 2. Agitation
 3. Slowness
 4. Speed

Question ID : 26433073801
Status : Answered
Chosen Option : 4

Q.4 Select the INCORRECTLY spelt word.

- Ans 1. Percist
 2. Conceive
 3. Repair
 4. Strict

Question ID : 26433073499
Status : Answered
Chosen Option : 1

Q.5 Select the most appropriate ANTONYM of the italicised word in the given sentence.

The *miser* hated spending money.

- Ans 1. skinflint
 2. spendthrift
 3. scrooge
 4. tightwad

Question ID : 26433096208
Status : Answered
Chosen Option : 2

Q.6 Select the most appropriate meaning of the given idiom.

Wrangle for an ass's shadow

- Ans 1. Losing temper easily
 2. Making false allegations
 3. Fighting for a just cause
 4. Argue over petty issues

Question ID : 26433072438
Status : Answered
Chosen Option : 4

Q.7 Select the most appropriate option to substitute the underlined segment in the given sentence.

They have decided to visit Konark, have they?

- Ans
- 1. do they?
 - 2. is it?
 - 3. haven't they?
 - 4. don't they?

Question ID : 26433088483
Status : Answered
Chosen Option : 3

Q.8 Select the most appropriate option to fill in the blank.

The cloth is _____ to touch so it is not suitable for apparels.

- Ans
- 1. coarse
 - 2. irregular
 - 3. smooth
 - 4. soft

Question ID : 26433074067
Status : Answered
Chosen Option : 1

Q.9 Select the most appropriate ANTONYM of the given word.

Eradicate

- Ans
- 1. Abolish
 - 2. Deteriorate
 - 3. Culminate
 - 4. Conserve

Question ID : 26433071970
Status : Answered
Chosen Option : 4

Q.10 Select the most appropriate meaning of the given idiom.

Snake in the grass

- Ans
- 1. Friendly person
 - 2. Loyal person
 - 3. Treacherous person
 - 4. Clever person

Question ID : 26433072277
Status : Answered
Chosen Option : 3

Q.11 Select the most appropriate synonym of the given word.

Bargain

- Ans 1. Deal
 2. Revoke
 3. Real
 4. Alert

Question ID : 26433072185
Status : Answered
Chosen Option : 1

Q.12 Select the most appropriate option to fill in the blank.

Indian society is a complex mix of _____ cultures, people and languages.

- Ans 1. diversion
 2. diverges
 3. diversity
 4. diverse

Question ID : 26433072731
Status : Answered
Chosen Option : 4

Q.13 Select the most appropriate option that can substitute the underlined segment in the given sentence.

The flyover that connecting the two cities is broken.

- Ans 1. has connect
 2. had connect
 3. connects
 4. has been connected

Question ID : 26433091868
Status : Answered
Chosen Option : 3

Q.14 Select the correct pair of words for the blanks in the given sentence.

My teacher asked me to read _____ and also _____ my best friend to celebrate his birthday in the school.

- Ans 1. loud; allow
 2. a loud; aloud
 3. allowed; aloud
 4. aloud; allowed

Question ID : 26433060542
Status : Answered
Chosen Option : 4

Q.15 The following sentence has been divided into parts. One of them may contain an error. Select the part that contains the error from the given options. If you don't find any error, mark 'No error' as your answer.
If the charge that he conspired / to raze a building is valid,/ there is great deal to answer for.

- Ans
- 1. to raze a building is valid
 - 2. If the charge that he conspired
 - 3. No error
 - 4. there is great deal to answer for

Question ID : 264330114509
Status : Answered
Chosen Option : 2

Comprehension:

In the following passage, some words have been deleted. Read the passage carefully and select the most appropriate option to fill in each blank.

The death penalty, often known as capital (1)_____, is the most severe form of punishment that may be meted out to an individual under any criminal legislation in (2)_____ anywhere in the world. The legal (3)_____ through which the state uses its power to take an individual's life is known as the death penalty. It has (4)_____ since the establishment of the State itself. The (5)_____ of independence heralded the beginning of a new era in India's judicial system.

SubQuestion No : 16

Q.16 Select the most appropriate option to fill in blank number 1.

- Ans
- 1. gain
 - 2. punishment
 - 3. attainment
 - 4. loss

Question ID : 26433060989
Status : Answered
Chosen Option : 2

Comprehension:

In the following passage, some words have been deleted. Read the passage carefully and select the most appropriate option to fill in each blank.

The death penalty, often known as capital (1)_____, is the most severe form of punishment that may be meted out to an individual under any criminal legislation in (2)_____ anywhere in the world. The legal (3)_____ through which the state uses its power to take an individual's life is known as the death penalty. It has (4)_____ since the establishment of the State itself. The (5)_____ of independence heralded the beginning of a new era in India's judicial system.

SubQuestion No : 17

Q.17 Select the most appropriate option to fill in blank number 2.

- Ans
- 1. resistance
 - 2. existence
 - 3. persistence
 - 4. maintenance

Question ID : 26433060990
Status : Answered
Chosen Option : 2

Comprehension:

In the following passage, some words have been deleted. Read the passage carefully and select the most appropriate option to fill in each blank.

The death penalty, often known as capital (1)_____, is the most severe form of punishment that may be meted out to an individual under any criminal legislation in (2)_____ anywhere in the world. The legal (3)_____ through which the state uses its power to take an individual's life is known as the death penalty. It has (4)_____ since the establishment of the State itself. The (5)_____ of independence heralded the beginning of a new era in India's judicial system.

SubQuestion No : 18

Q.18 Select the most appropriate option to fill in blank number 3.

- Ans 1. method
 2. lawyer
 3. intention
 4. custody

Question ID : 26433060991

Status : Answered

Chosen Option : 1

Comprehension:

In the following passage, some words have been deleted. Read the passage carefully and select the most appropriate option to fill in each blank.

The death penalty, often known as capital (1)_____, is the most severe form of punishment that may be meted out to an individual under any criminal legislation in (2)_____ anywhere in the world. The legal (3)_____ through which the state uses its power to take an individual's life is known as the death penalty. It has (4)_____ since the establishment of the State itself. The (5)_____ of independence heralded the beginning of a new era in India's judicial system.

SubQuestion No : 19

Q.19 Select the most appropriate option to fill in blank number 4.

- Ans 1. considered
 2. published
 3. authorised
 4. existed

Question ID : 26433060992

Status : Answered

Chosen Option : 4

Comprehension:

In the following passage, some words have been deleted. Read the passage carefully and select the most appropriate option to fill in each blank.

The death penalty, often known as capital (1)_____, is the most severe form of punishment that may be meted out to an individual under any criminal legislation in (2)_____ anywhere in the world. The legal (3)_____ through which the state uses its power to take an individual's life is known as the death penalty. It has (4)_____ since the establishment of the State itself. The (5)_____ of independence heralded the beginning of a new era in India's judicial system.

SubQuestion No : 20**Q.20 Select the most appropriate option to fill in blank number 5.**

- Ans 1. birth
 2. verity
 3. end
 4. enlightenment

Question ID : 26433060993
Status : Answered
Chosen Option : 1

Section : Part-D-Hindi

Q.1 'आस्तीन का सांप' मुहावरे का सही अर्थ होगा -

- Ans 1. शातिर मित्र
 2. सांप पालना
 3. कपटी मित्र
 4. बगल में सांप रहना

Question ID : 26433062609
Status : Not Answered
Chosen Option : --

Q.2 निम्नलिखित शब्दों में से कौन सा शब्द अनेकार्थी शब्द है?

- Ans 1. फल
 2. अर्चना
 3. उपहार
 4. पूजा

Question ID : 26433091319
Status : Not Answered
Chosen Option : --

Q.3 निम्नलिखित वाक्यांश के लिए उपयुक्त सार्थक शब्द क्या होगा?
तेज गति से चलने वाला

- Ans
- 1. कर्मठ
 - 2. बलवान
 - 3. द्रुतगामी
 - 4. प्रगतिशील

Question ID : 26433065764
Status : Not Answered
Chosen Option : --

Q.4 निम्न में से कौन-सा शब्द 'आसमान' का पर्यायवाची शब्द है?

- Ans
- 1. प्रभात
 - 2. द्रुत
 - 3. दहन
 - 4. आकाश

Question ID : 26433067084
Status : Not Answered
Chosen Option : --

Q.5 'कुलश्रेष्ठ _____।' उपर्युक्त वाक्य में रिक्त स्थान के लिए उपयुक्त विकल्प निम्न में से क्या होगा?

- Ans
- 1. का अर्थ होता है कुल में वृद्ध
 - 2. का अर्थ होता है कुल में बड़ा
 - 3. का अर्थ होता है कुल में श्रेष्ठ
 - 4. का अर्थ होता है कुल में छोटा

Question ID : 26433067039
Status : Not Answered
Chosen Option : --

Q.6 उसने नहाने के बाद भोजन किया। उपरोक्त वाक्य में रेखांकित पद के बदले उचित पूर्वकालिक क्रिया पद भरकर वाक्य पूर्ण कीजिए।

- Ans
- 1. नहाना और
 - 2. नहाया
 - 3. नहाकर
 - 4. नहलवाया

Question ID : 26433063042
Status : Not Answered
Chosen Option : --

Q.7 निम्नलिखित वाक्य के रिक्त स्थान में सबसे उपयुक्त मुहावरा क्या होगा?
'वह तो अपनी माँ की _____ है।'

- Ans
- 1. धुन का पक्का
 - 2. अक्ल का दुश्मन
 - 3. तिल का ताड़
 - 4. आँखों का तारा

Question ID : 26433066722
Status : Not Answered
Chosen Option : --

Q.8 'आज कल सभी के पास स्मार्ट फोन होना आम बात है।' वाक्य में प्रयुक्त 'आम' शब्द निम्न में से किस अर्थ को व्यक्त करता है?

- Ans
- 1. सामान्य
 - 2. अच्छी
 - 3. सभी
 - 4. आम का फल

Question ID : 26433080913
Status : Not Answered
Chosen Option : --

Q.9 'जिसकी जानकारी बहुत अधिक हो' वाक्यांश के लिए एक शब्द क्या होगा?

- Ans
- 1. विज्ञ
 - 2. अज्ञ
 - 3. अज
 - 4. अजान

Question ID : 26433065728
Status : Not Answered
Chosen Option : --

Q.10 निम्न वाक्य में रेखांकित शब्द-समूह के लिए सर्वाधिक उपयुक्त विकल्प चुनें।
जो कम जानता है, वही अधिक उछलता है।

- Ans
- 1. अल्पज्ञ
 - 2. विज्ञानी
 - 3. विज्ञ
 - 4. जिज्ञासु

Question ID : 26433062285
Status : Not Answered
Chosen Option : --

Q.11 निम्नलिखित वाक्य में प्रयुक्त अशुद्ध शब्द पहचानें।
'सेनिक सदैव सीमा की सुरक्षा के लिए तत्पर रहते हैं।'

- Ans
- 1. सदैव
 - 2. तत्पर
 - 3. सुरक्षा
 - 4. सेनिक

Question ID : 26433066825
Status : Not Answered
Chosen Option : --

Q.12 "यह दवा रोग में समूल से नष्ट करती है।"
उपरोक्त वाक्य में कारक सम्बन्धी त्रुटि पहचानकर निम्नलिखित में से शुद्ध वाक्य चुनिए।

- Ans
- 1. यह दवा रोग पर मूल से नष्ट करती है।
 - 2. यह दवा रोग के लिए मूल से नष्ट करती है।
 - 3. यह दवा रोग को समूल नष्ट करती है।
 - 4. यह दवा रोग को समूल से नष्ट करती है।

Question ID : 26433066971
Status : Not Answered
Chosen Option : --

Q.13 'नमन पुस्तक पढ़ता है।' इस वाक्य का कर्मवाच्य में रूपांतरण होगा -

- Ans
- 1. नमन पुस्तक पढ़ रहा है।
 - 2. नमन पुस्तक पढ़ेगा।
 - 3. नमन से पुस्तक पढ़ी नहीं जाती।
 - 4. नमन द्वारा पुस्तक पढ़ी गई।

Question ID : 26433062321
Status : Not Answered
Chosen Option : --

Q.14 यह आश्रम अत्यंत शांत है।
उपरोक्त वाक्य में रेखांकित शब्द के उचित पर्यायवाची शब्द का चयन विकल्पों में से कीजिए।

- Ans
- 1. कुटी
 - 2. रैन
 - 3. मधवा
 - 4. रासभ

Question ID : 26433079624
Status : Not Answered
Chosen Option : --

Q.15 वर्तनी की दृष्टि से दिए गए वाक्य के अशुद्ध भाग का चयन कीजिए-
विदेश में मेरे मरने पर मेरी अस्थियाँ इलाहाबाद भेज दी जाएँ।

- Ans
- 1. मरने पर मेरी
 - 2. भेज दी जाएँ।
 - 3. विदेश में मेरे
 - 4. अस्थियाँ इलाहाबाद

Question ID : 26433062884
Status : Not Answered
Chosen Option : --

Comprehension:

निम्नलिखित गद्यांश में कुछ शब्दों को हटा दिया गया है। दिए गए विकल्पों की सहायता से रिक्त स्थानों की पूर्ति कीजिए। प्रत्येक संख्या के लिए सबसे उपयुक्त विकल्प का चयन कीजिए।
मनुष्य को गुण, कर्म और स्वभाव से 1. _____ प्रकृति वाला प्राणी माना जाता है; यद्यपि हर आदमी के 2. _____ कोने में अज्ञात रूप से एक 3. _____ प्राणी भी छिपा रहा करता है। प्रायः मनुष्य भरसक चेष्टा कर के भी उसे जागने नहीं देता। जब किसी कारणवश वह जाग ही पड़ता है, तभी 4. _____ संघर्षात्मक क्रिया-प्रतिक्रियाओं का भी 5. _____ हुआ करता है। उन्हीं के घर्षण-प्रत्याघर्षण से उत्पन्न हुआ करती है युद्धों की ज्वाला।

SubQuestion No : 16

Q.16 रिक्त स्थान 1 की पूर्ति के लिए सबसे उपयुक्त विकल्प का चयन करें।

- Ans
- 1. क्रोधी
 - 2. अभिमानी
 - 3. शांत
 - 4. जंगली

Question ID : 264330110909
Status : Not Answered
Chosen Option : --

Comprehension:

निम्नलिखित गद्यांश में कुछ शब्दों को हटा दिया गया है। दिए गए विकल्पों की सहायता से रिक्त स्थानों की पूर्ति कीजिए। प्रत्येक संख्या के लिए सबसे उपयुक्त विकल्प का चयन कीजिए।
मनुष्य को गुण, कर्म और स्वभाव से 1. _____ प्रकृति वाला प्राणी माना जाता है; यद्यपि हर आदमी के 2. _____ कोने में अज्ञात रूप से एक 3. _____ प्राणी भी छिपा रहा करता है। प्रायः मनुष्य भरसक चेष्टा कर के भी उसे जागने नहीं देता। जब किसी कारणवश वह जाग ही पड़ता है, तभी 4. _____ संघर्षात्मक क्रिया-प्रतिक्रियाओं का भी 5. _____ हुआ करता है। उन्हीं के घर्षण-प्रत्याघर्षण से उत्पन्न हुआ करती है युद्धों की ज्वाला।

SubQuestion No : 17

Q.17 रिक्त स्थान 2 की पूर्ति के लिए सबसे उपयुक्त विकल्प का चयन करें।

- Ans
- 1. बाह्य
 - 2. भीतरी
 - 3. बाहरी
 - 4. बाहारी

Question ID : 264330110910
Status : Not Answered
Chosen Option : --

Comprehension:

निम्नलिखित गद्यांश में कुछ शब्दों को हटा दिया गया है। दिए गए विकल्पों की सहायता से रिक्त स्थानों की पूर्ति कीजिए। प्रत्येक संख्या के लिए सबसे उपयुक्त विकल्प का चयन कीजिए।
मनुष्य को गुण, कर्म और स्वभाव से 1. _____ प्रकृति वाला प्राणी माना जाता है; यद्यपि हर आदमी के 2. _____ कोने में अज्ञात रूप से एक 3. _____ प्राणी भी छिपा रहा करता है। प्रायः मनुष्य भरसक चेष्टा कर के भी उसे जागने नहीं देता। जब किसी कारणवश वह जाग ही पड़ता है, तभी 4. _____ संघर्षात्मक क्रिया-प्रतिक्रियाओं का भी 5. _____ हुआ करता है। उन्हीं के घर्षण-प्रत्याघर्षण से उत्पन्न हुआ करती है युद्धों की ज्वाला।

SubQuestion No : 18

Q.18 रिक्त स्थान 3 की पूर्ति के लिए सबसे उपयुक्त विकल्प का चयन करें।

- Ans
- 1. नभचर
 - 2. जलचर
 - 3. हिंसक
 - 4. थलचर

Question ID : 264330110911

Status : Not Answered

Chosen Option : --

Comprehension:

निम्नलिखित गद्यांश में कुछ शब्दों को हटा दिया गया है। दिए गए विकल्पों की सहायता से रिक्त स्थानों की पूर्ति कीजिए। प्रत्येक संख्या के लिए सबसे उपयुक्त विकल्प का चयन कीजिए।
मनुष्य को गुण, कर्म और स्वभाव से 1. _____ प्रकृति वाला प्राणी माना जाता है; यद्यपि हर आदमी के 2. _____ कोने में अज्ञात रूप से एक 3. _____ प्राणी भी छिपा रहा करता है। प्रायः मनुष्य भरसक चेष्टा कर के भी उसे जागने नहीं देता। जब किसी कारणवश वह जाग ही पड़ता है, तभी 4. _____ संघर्षात्मक क्रिया-प्रतिक्रियाओं का भी 5. _____ हुआ करता है। उन्हीं के घर्षण-प्रत्याघर्षण से उत्पन्न हुआ करती है युद्धों की ज्वाला।

SubQuestion No : 19

Q.19 रिक्त स्थान 4 की पूर्ति के लिए सबसे उपयुक्त विकल्प का चयन करें।

- Ans
- 1. तरह-तरह के
 - 2. इधर-उधर
 - 3. कभी कभी
 - 4. आस-पास

Question ID : 264330110912

Status : Not Answered

Chosen Option : --

Comprehension:

निम्नलिखित गद्यांश में कुछ शब्दों को हटा दिया गया है। दिए गए विकल्पों की सहायता से रिक्त स्थानों की पूर्ति कीजिए। प्रत्येक संख्या के लिए सबसे उपयुक्त विकल्प का चयन कीजिए।
मनुष्य को गुण, कर्म और स्वभाव से 1. _____ प्रकृति वाला प्राणी माना जाता है; यद्यपि हर आदमी के 2. _____ कोने में अज्ञात रूप से एक 3. _____ प्राणी भी छिपा रहा करता है। प्रायः मनुष्य भरसक चेष्टा कर के भी उसे जागने नहीं देता। जब किसी कारणवश वह जाग ही पड़ता है, तभी 4. _____ संघर्षात्मक क्रिया-प्रतिक्रियाओं का भी 5. _____ हुआ करता है। उन्हीं के घर्षण-प्रत्याघर्षण से उत्पन्न हुआ करती है युद्धों की ज्वाला।

SubQuestion No : 20

Q.20 रिक्त स्थान 5 की पूर्ति के लिए सबसे उपयुक्त विकल्प का चयन करें।

- Ans 1. मृत्यु
 2. जन्म
 3. समाप्त
 4. अंत

Question ID : 264330110913

Status : Not Answered

Chosen Option : --

KD Job Updates

Constable GD in CAPFs SSF Rifleman GD in Assam Rifles and Sepoy in NCB Examination 2022

Roll Number	KD Job Updates
Candidate Name	KD Job Updates
Venue Name	ION Digital Zone iDZ SARONA
Exam Date	27/01/2023
Exam Time	9:00 AM - 10:00 AM
Subject	Constable GD Examination 2022

Section : Part-A-General Intelligence and Reasoning

Q.1 छः छात्र A, B, C, D, E और F एक वृत्ताकार मेज के परितः केंद्र के विपरीत दिशा की ओर मुख करके बैठे हैं। D, E के दाईं ओर ठीक बगल में बैठा है, जो F के दाईं ओर ठीक बगल में बैठा है। A, D और C के ठीक बगल में बैठा है। निम्नलिखित में से कौन E के बाईं ओर दूसरे स्थान पर बैठा है?

- Ans
- 1. A
 - 2. C
 - 3. F
 - 4. B

Question ID : 26433068488

Status : Answered

Chosen Option : 4

Q.2 उस विकल्प का चयन कीजिए जो पांचवें अक्षर-समूह से उसी प्रकार संबंधित है जिस प्रकार दूसरा अक्षर-समूह पहले अक्षर-समूह से संबंधित है और चौथा अक्षर-समूह तीसरे अक्षर-समूह से संबंधित है।
NEST: OVHU :: STIR : TGRS :: BAKE : ?

- Ans
- 1. CZPF
 - 2. YBLV
 - 3. YZPV
 - 4. CBLF

Question ID : 26433057481

Status : Answered

Chosen Option : 1

Q.3 नीचे दिए गए समीकरण को गणितीय रूप से सही बनाने के लिए किन दो गणितीय चिन्हों को परस्पर बदलना चाहिए?
 $105 \div 15 \times 54 + 6 - 18 = 222$

- Ans
- 1. + और -
 - 2. ÷ और +
 - 3. + और ×
 - 4. ÷ और ×

Question ID : 264330117563

Status : Not Answered

Chosen Option : --

Q.4 नीचे दिए गए समीकरण को गणितीय रूप से सही बनाने के लिए किन दो गणितीय चिह्नों को परस्पर बदलना चाहिए?
 $15 \div 5 \times 27 + 3 - 9 = 51$

- Ans
- 1. \div और \times
 - 2. $+$ और $-$
 - 3. \div और $+$
 - 4. $+$ और \times

Question ID : 264330114176

Status : Answered

Chosen Option : 2

Q.5 सात व्यक्ति Q, R, Y, W, T, E और U एक सीधी पंक्ति में उत्तर की ओर मुख करके बैठे हैं। R के बाईं ओर केवल तीन व्यक्ति बैठते हैं। U दाएं सिरे पर बैठता है। Q और R के बीच केवल दो व्यक्ति बैठते हैं। T, R और Y के ठीक बगल में बैठता है। W, Q और E के ठीक बगल में है। पंक्ति के ठीक मध्य में कौन बैठता है?

- Ans
- 1. E
 - 2. W
 - 3. R
 - 4. T

Question ID : 26433092596

Status : Answered

Chosen Option : 3

Q.6 'F - G' का अर्थ है 'F, G का भाई है'
'F * G' का अर्थ है 'F, G की बहन है'
'F + G' का अर्थ है 'F, G का पिता है'
'F \$ G' का अर्थ है 'F, G की माता है'
यदि 'H \$ I + J - K' है, तो H, K से किस प्रकार संबंधित है?

- Ans
- 1. पिता
 - 2. दादा
 - 3. दादी
 - 4. बहन

Question ID : 26433087127

Status : Answered

Chosen Option : 2

Q.7 निम्न श्रंखला में प्रश्न-चिह्न (?) के स्थान पर कौन सी संख्या आएगी?
32, 34, ?, 212, 850, 4252

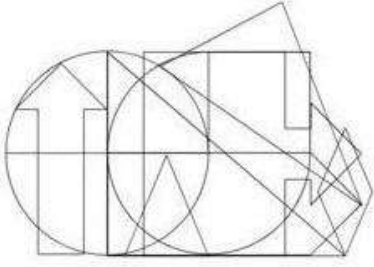
- Ans
- 1. 100
 - 2. 120
 - 3. 70
 - 4. 68

Question ID : 26433068972

Status : Answered

Chosen Option : 4

Q.8 उस विकल्प आकृति का चयन करें जो नीचे दी गई आकृति में अंतर्निहित है।
(आकृति घुमाने की अनुमति नहीं है)



Ans

✗ 1.



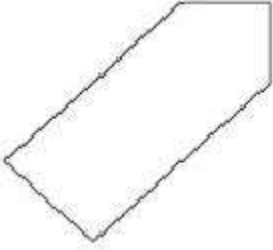
✗ 2.



✓ 3.



✗ 4.



Question ID : 26433085746

Status : Not Answered

Chosen Option : --

Q.9 एक निश्चित कूट भाषा में, FLASH को 'INDUK' लिखा जाता है, और GAMES को 'JCPGV' लिखा जाता है। उसी कूट भाषा में 'TRUST' को किस प्रकार लिखा जाएगा?

Ans ✗ 1. WTXVW

✗ 2. WTYVW

✓ 3. WTXUW

✗ 4. WUXVW

Question ID : 26433067987

Status : Answered

Chosen Option : 3

Q.10 निम्नलिखित में से कौन-सी संख्या दी गई श्रंखला में प्रश्न-चिह्न (?) के स्थान पर आएगी?
946, 721, 552, ?, 350, 301

- Ans
- 1. 445
 - 2. 442
 - 3. 431
 - 4. 439

Question ID : 26433089791

Status : Answered

Chosen Option : 3

Q.11 इस प्रश्न में तीन कथन दिए गए हैं, जिसके बाद दो निष्कर्ष I और II दिए गए हैं। कथनों को सत्य मानते हुए, भले ही वे सर्वज्ञात तथ्यों से भिन्न प्रतीत होते हों, निर्णय कीजिए कि कौन-सा/से निष्कर्ष कथनों का तार्किक रूप से अनुसरण करता है/अनुसरण करते हैं।

कथन:

सभी पत्ते पौधे हैं।

सभी पौधे पेड़ हैं।

सभी पेड़ बड़े हैं।

निष्कर्ष:

I. कुछ पेड़ पत्ते हैं।

II. सभी पत्ते बड़े हैं।

- Ans
- 1. निष्कर्ष I और II दोनों अनुसरण करते हैं।
 - 2. केवल निष्कर्ष II अनुसरण करता है।
 - 3. केवल निष्कर्ष I अनुसरण करता है।
 - 4. न तो निष्कर्ष I और न ही II अनुसरण करता है।

Question ID : 26433070385

Status : Answered

Chosen Option : 1

Q.12 उस समुच्चय का चयन करें, जिसमें संख्याएँ उसी प्रकार संबंधित हैं, जिस प्रकार निम्नलिखित समुच्चयों की संख्याएँ हैं।

(नोट: संख्याओं को उसके घटक अंकों में विभाजित किए बिना, पूर्ण संख्याओं पर ही गणितीय संक्रियाएँ की जानी चाहिए। जैसे 13 - मान लीजिए 13 पर गणितीय संक्रियाएँ जैसे कि 13 में जोड़ना/घटाना/गुणा करना आदि किया जा सकता है। 13 को 1 और 3 में तोड़कर और फिर 1 और 3 पर गणितीय संक्रियाएँ करने की अनुमति नहीं है।)

(264, 43, 19)

(132, 27, 15)

- Ans
- 1. (176, 39, 23)
 - 2. (151, 63, 52)
 - 3. (240, 59, 39)
 - 4. (331, 50, 29)

Question ID : 26433076479

Status : Not Answered

Chosen Option : --

Q.13 किस विकल्प में निम्नलिखित शब्दों का वह क्रम दिया गया है, जिस क्रम में वे अंग्रेजी शब्दकोश में आते हैं?

- 1 Difficult
- 2 Differentiate
- 3 Dissolve
- 4 Dilute
- 5 Distance

- Ans
- 1. 1,4,2,3,5
 - 2. 2,3,1,4,5
 - 3. 1,3,2,5,4
 - 4. 2,1,4,3,5

Question ID : 26433069264

Status : Answered

Chosen Option : 4

Q.14 उस विकल्प का चयन करें जो पाँचवें पद से उसी प्रकार संबंधित है जिस प्रकार दूसरा पद पहले पद से संबंधित है और चौथा पद तीसरे पद से संबंधित है।

BRIGHT : DTKIJV :: DANGER : FCPIGT :: FOREST : ?

- Ans
- 1. HQTGSU
 - 2. RESTOF
 - 3. EPQDRS
 - 4. HQTGUV

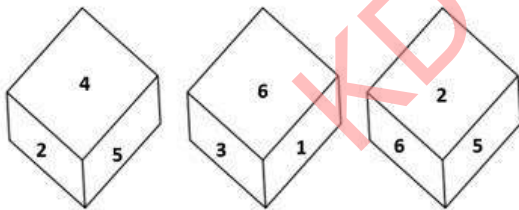
Question ID : 26433087194

Status : Answered

Chosen Option : 4

Q.15 एक ही पासे की तीन अलग-अलग स्थितियाँ यहाँ दर्शायी गई हैं। '1' दर्शाने वाले

फलक के विपरीत वाले फलक पर आने वाली संख्या ज्ञात कीजिए।



- Ans
- 1. 3
 - 2. 6
 - 3. 4
 - 4. 2

Question ID : 26433082891

Status : Answered

Chosen Option : 4

Q.16 कौन-सा अक्षर-समूह दी गई श्रृंखला में प्रश्नचिह्न (?) के स्थान पर आकर श्रृंखला को पूर्ण करेगा?
HSCQ, JVZR, ?, NBTT, PEQU

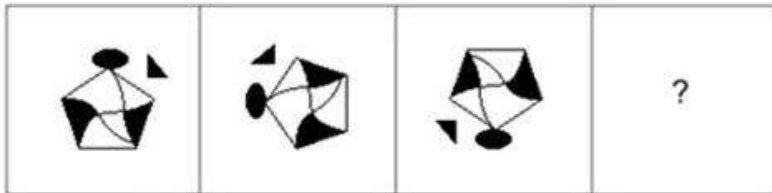
- Ans
- 1. LPXS
 - 2. LTYT
 - 3. LQGT
 - 4. LYWS

Question ID : 26433079426

Status : Answered

Chosen Option : 4

Q.17 उस आकृति का चयन कीजिए जो नीचे दी गई श्रृंखला में प्रश्न चिह्न (?) के स्थान पर आएगी।



Ans

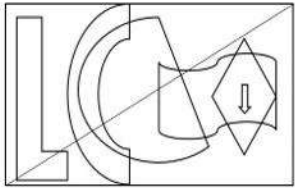
- 1.
- 2.
- 3.
- 4.

Question ID : 26433070421

Status : Answered

Chosen Option : 1

Q.18 उस विकल्प आकृति का चयन करें जो दी गई आकृति में निहित है। (आकृति को घुमाने की अनुमति नहीं है)।



Ans

- ✗ 1.
- ✗ 2.
- ✗ 3.
- ✓ 4.

Question ID : 26433089775

Status : Answered

Chosen Option : 4

Q.19 एक निश्चित कूट भाषा में 'HOUSE' को IQVUF के रूप में कूटबद्ध किया जाता है और 'GARDEN' को HCSFFP के रूप में कूटबद्ध किया जाता है। उसी भाषा में 'ORANGE' को किस प्रकार कूटबद्ध किया जाएगा?

- ✗ 1. LIZMTV
- ✗ 2. PSBOHF
- ✓ 3. PTBPHG
- ✗ 4. QSCOIF

Question ID : 26433074515

Status : Answered

Chosen Option : 4

Q.20 निम्नलिखित में से कौन-सा अक्षर नीचे दी गई अक्षर श्रृंखला में प्रश्न-चिह्न (?) के स्थान पर आकर श्रृंखला को पूर्ण करेगा?
B, D, E, G, H, J, ?

- Ans 1. M
 2. K
 3. J
 4. L

Question ID : 26433067278
Status : Answered
Chosen Option : 4

Section : Part-B-General Knowledge and General awareness

Q.1 जिप्सम को _____ पर गर्म करने पर यह जल के अणुओं का त्याग कर कैल्सियम सल्फेट अर्धहाइड्रेट बनता है।

- Ans 1. 173 K
 2. 215 K
 3. 115 K
 4. 373 K

Question ID : 264330115143
Status : Not Answered
Chosen Option : --

Q.2 इंटरनेट और फैक्स के माध्यम से वस्तुओं के क्रय-विक्रय के लिए उपलब्ध सुविधा का नाम बताएं।

- Ans 1. टेलीफोन सेवा
 2. डाक सेवा
 3. टेलीविजन
 4. ई-कॉमर्स

Question ID : 264330115597
Status : Answered
Chosen Option : 4

Q.3 निम्नलिखित में से कौन एक कथक नर्तक/नर्तकी नहीं हैं?

- Ans 1. सितारा देवी
 2. आनंद शंकर
 3. शंभू महाराज
 4. गोपी कृष्णा

Question ID : 26433071692
Status : Answered
Chosen Option : 2

Q.4 पुष्कर सिंह धामी, जो मार्च 2022 में भारत के उत्तराखंड राज्य के मुख्यमंत्री बने, _____ राजनीतिक दल से संबंधित हैं।

- Ans
- 1. राष्ट्रवादी कांग्रेस पार्टी
 - 2. भारतीय राष्ट्रीय कांग्रेस
 - 3. भारतीय कम्युनिस्ट पार्टी
 - 4. भारतीय जनता पार्टी

Question ID : 264330114895
Status : Answered
Chosen Option : 4

Q.5 प्रधानमंत्री श्री नरेंद्र मोदी ने विश्व जल दिवस, 2021 पर 'जल शक्ति अभियान : _____' अभियान शुरू किया। रिक्त स्थान को उपयुक्त विकल्प से भरें।

- Ans
- 1. कॉल द रेन
 - 2. कंज़र्व द रेन
 - 3. कास्ट द रेन
 - 4. कैच द रेन

Question ID : 264330116165
Status : Answered
Chosen Option : 4

Q.6 भारत के राष्ट्रीय खेल 2022 के 36वें संस्करण में कुल खेलों की संख्या _____ थी।

- Ans
- 1. 50
 - 2. 36
 - 3. 40
 - 4. 44

Question ID : 264330115910
Status : Answered
Chosen Option : 3

Q.7 भारत की दसवीं पंचवर्षीय योजना के दौरान वास्तविक विकास दर _____ थी।

- Ans
- 1. 6.2 प्रतिशत
 - 2. 7.6 प्रतिशत
 - 3. 7 प्रतिशत
 - 4. 5 प्रतिशत

Question ID : 264330115361
Status : Not Answered
Chosen Option : --

Q.8 जनगणना 2011 के अनुसार भारत का सबसे कम जनसंख्या वाला राज्य कौन-सा है?

- Ans
- 1. सिक्किम
 - 2. मिज़ोरम
 - 3. गोवा
 - 4. पंजाब

Question ID : 264330116028

Status : Answered

Chosen Option : 1

Q.9 उपाधियों का अंत का उल्लेख निम्नलिखित में से किस अनुच्छेद के तहत किया गया है?

- Ans
- 1. अनुच्छेद 17
 - 2. अनुच्छेद 18
 - 3. अनुच्छेद 19
 - 4. अनुच्छेद 20

Question ID : 26433089182

Status : Answered

Chosen Option : 2

Q.10 1936 के बर्लिन ओलंपिक में भारतीय हॉकी पुरुष टीम के कप्तान कौन थे?

- Ans
- 1. अहमद खान
 - 2. रूप सिंह
 - 3. ध्यान चंद
 - 4. सईद जाफ़र

Question ID : 26433090749

Status : Answered

Chosen Option : 3

Q.11 निम्नलिखित में से कौन-सी नदी अरब सागर में गिरती है?

- Ans
- 1. गंगा
 - 2. कृष्णा
 - 3. नर्मदा
 - 4. महानदी

Question ID : 26433089664

Status : Answered

Chosen Option : 1

Q.12 निम्नलिखित में से कौन सी पुस्तक दयानंद सरस्वती द्वारा लिखी गई थी?

- Ans
- 1. काबुलीवाला
 - 2. स्ट्रे बर्ड्स
 - 3. सत्यार्थ प्रकाश
 - 4. गीतांजलि

Question ID : 264330115727

Status : Answered

Chosen Option : 3

Q.13 निवल निर्यात = कुल निर्यात - _____

- Ans
- 1. कुल आय
 - 2. कुल आयात
 - 3. कुल ब्याज
 - 4. कुल राजस्व

Question ID : 264330115350

Status : Answered

Chosen Option : 1

Q.14 अनिदिता नेओगी अनाम को _____ से सम्मानित किया गया है।

- Ans
- 1. अभिनंदन सरोजा राष्ट्रीय पुरस्कार
 - 2. राष्ट्रीय नृत्य शिरोमणि
 - 3. पद्म भूषण
 - 4. पद्म विभूषण

Question ID : 264330115819

Status : Not Attempted and Marked For Review

Chosen Option : --

Q.15 भारतीय संविधान का निम्नलिखित में से कौन सा अनुच्छेद, भारत के नियंत्रक एवं महालेखा परीक्षक के लिए एक स्वतंत्र कार्यालय का प्रावधान करता है?

- Ans
- 1. अनुच्छेद 160
 - 2. अनुच्छेद 158
 - 3. अनुच्छेद 134
 - 4. अनुच्छेद 148

Question ID : 26433086822

Status : Answered

Chosen Option : 4

Q.16 प्रधानमंत्री नरेंद्र मोदी ने दक्षिण भारत में किस मार्ग पर पहली वंदे भारत एक्सप्रेस रेलगाड़ी को हरी झंडी दिखाई?

- Ans
- 1. मैसूर-चेन्नई
 - 2. एर्नाकुलम - कोल्लम
 - 3. मेट्टुपालयम - ऊटी
 - 4. बैंगलोर - चेन्नई

Question ID : 264330115053
Status : Answered
Chosen Option : 1

Q.17 लुई-नगाई-नी _____ के लोगों द्वारा बीज बोने के उत्सव के रूप में मनाया जाता है।

- Ans
- 1. अरुणाचल प्रदेश
 - 2. असम
 - 3. सिक्किम
 - 4. मणिपुर

Question ID : 264330115081
Status : Not Answered
Chosen Option : --

Q.18 प्रथम सात पंचवर्षीय योजनाओं में _____ को अधिक महत्व दिया गया।

- Ans
- 1. आत्म-निर्भरता
 - 2. आधुनिकीकरण
 - 3. हिस्सेदारी
 - 4. निर्यात वृद्धि

Question ID : 264330116118
Status : Answered
Chosen Option : 2

Q.19 _____ कोशिका का अपशिष्ट निपटाने वाला तंत्र है।

- Ans
- 1. माइटोकॉन्ड्रिया
 - 2. लाइसोसोम
 - 3. रसधानियाँ
 - 4. राइबोसोम

Question ID : 264330115190
Status : Answered
Chosen Option : 4

Q.20 निम्नलिखित में से हड़प्पा नगरों के किस भाग को निचला-नगर कहा जाता है?

- Ans
- 1. दक्षिणी
 - 2. उत्तरी
 - 3. पूर्वी
 - 4. पश्चिमी

Question ID : 264330115441

Status : Answered

Chosen Option : 1

Section : Part-C-Elementary Mathematics

Q.1 एक विलयन में 50 लीटर शुद्ध दूध है। 10 लीटर दूध को समान मात्रा में पानी से प्रतिस्थापित कर दिया जाता है। फिर से 10 लीटर मिश्रण को 10 लीटर पानी से प्रतिस्थापित किया जाता है और यह क्रिया एक बार और दोहराई जाती है। अंतिम विलयन में दूध की मात्रा ज्ञात करें।

- Ans
- 1. 25.6 लीटर
 - 2. 25 लीटर
 - 3. 25.4 लीटर
 - 4. 25.2 लीटर

Question ID : 26433081549

Status : Not Answered

Chosen Option : --

Q.2 यदि वार्षिक चक्रवृद्धि के मामले में ₹1,00,000 की राशि दो समान वार्षिक किश्तों में $2\frac{3}{4}$ प्रतिशत चक्रवृद्धि ब्याज प्रति वर्ष की दर से वापस की जानी है, तो प्रत्येक किस्त का मूल्य क्या है? (निकटतम अभिन्न मूल्य तक पूर्णांकित)

- Ans
- 1. ₹53,072
 - 2. ₹50,072
 - 3. ₹51,072
 - 4. ₹52,072

Question ID : 26433074226

Status : Not Answered

Chosen Option : --

Q.3 P, Q और R एक कार्य को क्रमशः 20, 30 और 60 दिनों में पूरा कर सकते हैं। यदि Q और R प्रत्येक तीसरे दिन P की सहायता करते हैं, तो कार्य को पूरा करने में कितने दिन लगेंगे?

- Ans
- 1. 17
 - 2. 18
 - 3. 12
 - 4. 15

Question ID : 26433065299

Status : Not Answered

Chosen Option : --

Q.4 Rs.10,000 के मूलधन के लिए 16% वार्षिक ब्याज दर पर 2 वर्ष का चक्रवृद्धि ब्याज (Rs. में) (लगभग) क्या होगा? (ब्याज अर्धवार्षिक रूप से चक्रवृद्धि किया जाता है)

- Ans 1. 3604
 2. 3306
 3. 3800
 4. 3200

Question ID : 26433071329
Status : Answered
Chosen Option : 4

Q.5 $0.25 : x :: 3 : 8$ है, तो $x = ?$

- Ans 1. 0.55
 2. 0.66
 3. 0.56
 4. 0.69

Question ID : 26433076376
Status : Not Answered
Chosen Option : --

Q.6 यदि एक प्राकृत संख्या को 2, 3 और 4 से विभाजित करने पर प्रत्येक स्थिति में 1 शेषफल बचता है, तो तीन अंकों की सबसे छोटी प्राकृत संख्या क्या होगी?

- Ans 1. 109
 2. 105
 3. 107
 4. 103

Question ID : 26433075634
Status : Not Answered
Chosen Option : --

Q.7 एक बस ने 15 km/h की चाल से 60 km, 25 km/h की चाल से 100 km और 5 km/h की चाल से 20 km की दूरी तय की। पूरी यात्रा के दौरान इसकी औसत चाल (m/sec में) क्या होगी?

- Ans 1. 20
 2. $\frac{25}{6}$
 3. $\frac{21}{2}$
 4. 15

Question ID : 26433075198
Status : Not Answered
Chosen Option : --

Q.8 एक समचतुर्भुज के विकर्णों का आधा भाग 75 cm और 90 cm है। समचतुर्भुज का क्षेत्रफल ज्ञात कीजिए।

- Ans
- 1. 6750 cm²
 - 2. 27000 cm²
 - 3. 13500 cm²
 - 4. 3375 cm²

Question ID : 26433075743

Status : Not Answered

Chosen Option : --

Q.9 एक चोर 12 m/s की चाल से दौड़ना शुरू करता है, 10 सेकंड दौड़ने के बाद एक पुलिसकर्मी उसी दिशा में 14.5 m/s की चाल से चोर को पकड़ने के लिए दौड़ना शुरू करता है। पुलिसकर्मी द्वारा चोर को पकड़ने में कितना समय लगेगा?

- Ans
- 1. 30 सेकंड
 - 2. 48 सेकंड
 - 3. 36 सेकंड
 - 4. 44 सेकंड

Question ID : 26433075693

Status : Not Attempted and Marked For Review

Chosen Option : --

Q.10 एक चुनाव में केवल दो उम्मीदवार हैं। एक व्यक्ति को 40 प्रतिशत मत मिले और वह 50 मतों से चुनाव हार गया। यह मानते हुए कि चुनाव में कोई अमान्य मत नहीं थे, मतों की कुल संख्या कितनी है?

- Ans
- 1. 250
 - 2. 120
 - 3. 150
 - 4. 450

Question ID : 26433079852

Status : Answered

Chosen Option : 1

Q.11 किसी एक दिवसीय मैच में एक क्रिकेट टीम के 11 खिलाड़ियों का औसत स्कोर 32 है। दस खिलाड़ियों द्वारा बनाए गए रन 11, 51, 2, 96, 21, 33, 0, 32, 9 और 14 हैं। 11वें खिलाड़ी ने कितने रन बनाए?

- Ans
- 1. 83
 - 2. 96
 - 3. 79
 - 4. 91

Question ID : 26433075096

Status : Not Answered

Chosen Option : --

Q.12 जब आशीष एक निश्चित कार्य पूरा करता है, तो उसे 70 रुपए का कुल वेतन मिलता है। जब कनिका समान कार्य पूरा करती है, तो उसे 165 रुपए का कुल वेतन मिलता है। आशीष और कनिका की दैनिक मजदूरी क्रमशः 3.5 रुपए और 5.5 रुपए हैं। यदि वे दोनों इसे एक साथ करते हैं, तो कार्य की लागत क्या है?

- Ans
- 1. 120 रुपए
 - 2. 108 रुपए
 - 3. 144 रुपए
 - 4. 140 रुपए

Question ID : 264330116849

Status : Not Answered

Chosen Option : --

Q.13 एक दुकानदार 10 पंखे खरीदता है और 10 पंखों के क्रय मूल्य पर 8 पंखे बेच देता है। उसका लाभ प्रतिशत कितना होगा?

- Ans
- 1. 24%
 - 2. 23%
 - 3. 22%
 - 4. 25%

Question ID : 26433074958

Status : Answered

Chosen Option : 3

Q.14 एक कस्बे में 5500 लोग हैं, जो एक चुनाव में मतदान कर सकते हैं। यदि पुरुष मतदाताओं की संख्या में 11% और महिला मतदाताओं की संख्या में 20% की वृद्धि होती है, तो मतदाताओं की संख्या 6330 हो जाती है। कस्बे में क्रमशः पुरुष और महिला मतदाताओं की प्रारंभिक संख्या ज्ञात कीजिए।

- Ans
- 1. 2000, 3500
 - 2. 2500, 3000
 - 3. 3000, 2500
 - 4. 3500, 2000

Question ID : 26433082091

Status : Not Answered

Chosen Option : --

Q.15 व्यंजक $2 \div \frac{5}{7}$ of $(7 + 9 \times 2) + \left[\frac{15}{6} \div \frac{5}{18} - \frac{24}{12}\right]$ को हल कीजिए।

- Ans
- 1. $\frac{47}{125}$
 - 2. $\frac{889}{125}$
 - 3. $\frac{146}{7}$
 - 4. $\frac{166}{7}$

Question ID : 26433082918

Status : Not Answered

Chosen Option : --

Q.16 एक गोले की त्रिज्या 6 cm है। इस गोले के पृष्ठीय क्षेत्रफल का संख्यात्मक मान इसके आयतन के संख्यात्मक मान का कितना प्रतिशत है?

- Ans
- 1. 50%
 - 2. 30%
 - 3. 60%
 - 4. 40%

Question ID : 26433092172

Status : Not Answered

Chosen Option : --

Q.17 एक वस्तु के अंकित मूल्य पर ग्राहक को 4.5 प्रतिशत की छूट दी जाती है। एक लड़की ने 191 रुपए में वस्तु खरीदी। वस्तु का अंकित मूल्य है:

- Ans
- 1. 500 रुपए
 - 2. 300 रुपए
 - 3. 200 रुपए
 - 4. 400 रुपए

Question ID : 264330116734

Status : Answered

Chosen Option : 3

Q.18 20 चूड़ियाँ खरीदने पर रिया को 5 चूड़ियाँ मुफ्त मिलती हैं। रिया को मिलने वाली छूट प्रतिशत क्या है?

- Ans
- 1. 25%
 - 2. 20%
 - 3. 15%
 - 4. 10%

Question ID : 26433076427

Status : Answered

Chosen Option : 1

Q.19 25 वस्तुएँ ₹8,625 में खरीदी गईं और ₹12,675 में बेची गईं। प्रति वस्तु लगभग लाभ प्रतिशत ज्ञात कीजिए।

- Ans
- 1. 32%
 - 2. 39%
 - 3. 47%
 - 4. 45%

Question ID : 26433076176

Status : Answered

Chosen Option : 4

Q.20 यदि $A = \frac{2}{3}B$ और $B = \frac{3}{5}C$, तो A:B:C का मान क्या होगा?

- Ans
- 1. 2:3:5
 - 2. 5:3:7
 - 3. 3:2:5
 - 4. 3:5:7

Question ID : 26433075666

Status : Not Answered

Chosen Option : --

Section : Part-D-English

Q.1 Select the most appropriate option to fill in the blank.

Janaki remains _____ while talking about her dark past.

- Ans
- 1. cautious
 - 2. dignified
 - 3. turbulent
 - 4. gracious

Question ID : 26433071883

Status : Not Answered

Chosen Option : --

Q.2 Select the INCORRECTLY spelt word.

- Ans
- 1. Spiteful
 - 2. Debatable
 - 3. Rotational
 - 4. Magnificientt

Question ID : 26433073505
Status : Not Answered
Chosen Option : --

Q.3 Identify the MISSPELT word in the following sentence.

In some regions of the world, child poverty remains a serious issue, significantly in relation of the geospatial and living standards in which children grow up.

- Ans
- 1. regions
 - 2. issue
 - 3. significantly
 - 4. geospatial

Question ID : 26433073661
Status : Not Answered
Chosen Option : --

Q.4 Select the most appropriate ANTONYM for the underlined word in the following sentence.

He is a spendthrift and spends money lavishly.

- Ans
- 1. Wicked
 - 2. Miser
 - 3. Mean
 - 4. Careful

Question ID : 26433093035
Status : Not Answered
Chosen Option : --

Q.5 Select the most appropriate synonym of the given word.

Commerce

- Ans
- 1. Class
 - 2. Trade
 - 3. Stream
 - 4. Bank

Question ID : 26433072350
Status : Not Answered
Chosen Option : --

Q.6 Select the most appropriate homonym to fill in the blank.

These products _____ for a long time.

- Ans 1. last
 2. lost
 3. least
 4. lust

Question ID : 26433088789
Status : Not Answered
Chosen Option : --

Q.7 Select the most appropriate ANTONYM of the given word.

Accuse

- Ans 1. Defend
 2. Incriminate
 3. Allege
 4. Charge

Question ID : 26433073577
Status : Not Answered
Chosen Option : --

Q.8 Select the most appropriate ANTONYM of the given word.

Grumble

- Ans 1. Raise
 2. Stray
 3. Navigate
 4. Praise

Question ID : 26433066086
Status : Not Answered
Chosen Option : --

Q.9 The given sentence is divided into three segments. Select the option that has the segment with a grammatical error. If there is no error, select 'no error' as your answer.

It will take / 5 minutes to / preparing a cup of tea.

- Ans 1. No error
 2. preparing a cup of tea
 3. It will take
 4. 5 minutes to

Question ID : 26433071858
Status : Not Answered
Chosen Option : --

Q.10 Complete the sentence by choosing the most appropriate synonym of the underlined word.

When you want to leave, you _____ the building.

- Ans
- 1. move in
 - 2. exit
 - 3. catch
 - 4. jump

Question ID : 26433088864
Status : Not Answered
Chosen Option : --

Q.11 Select the most appropriate option to fill in the blank.

The _____ of this beautiful garden is so exciting.

- Ans
- 1. site
 - 2. slight
 - 3. sight
 - 4. cite

Question ID : 26433073932
Status : Not Answered
Chosen Option : --

Q.12 Select the most appropriate meaning of the underlined idiom in the following sentence.

Keep an eye on the situation around, and take your decision accordingly.

- Ans
- 1. Be aggressive with red eyes
 - 2. Cries over spilt milk
 - 3. Ignore
 - 4. Observe continually and carefully

Question ID : 26433072513
Status : Not Answered
Chosen Option : --

Q.13 Select the most appropriate option to substitute the underlined segment in the given sentence to make it a meaningful sentence. If no substitution is required, select 'No substitution'.

The first step towards the prevention of cybercrimes will obviously to promote awareness about criminal activities and tighten up security.

- Ans
- 1. would obviously be to promote awareness about criminal activities
 - 2. would obviously been to promote awareness about criminal activities
 - 3. No substitution
 - 4. would obviously be to promote awareness for criminal activities

Question ID : 26433092042
Status : Not Answered
Chosen Option : --

Q.14 Select the most appropriate option that can substitute the underlined segment in the given sentence. If there is no need to substitute it, select 'No substitution'.

Many instances of corruption have been reported by authorities posted theyre.

- Ans
- 1. authorities in which were posted theyre
 - 2. No substitution
 - 3. authorities posted there
 - 4. authorities whom were posted theyre

Question ID : 26433091764

Status : Not Answered

Chosen Option : --

Q.15 Select the most appropriate meaning of the underlined idiom that can be substituted in the following sentence.

My son was disappointed with his failure, but he took heart and tried again

- Ans
- 1. was deeply affected
 - 2. loved dearly
 - 3. felt encouraged
 - 4. cried miserably

Question ID : 26433072236

Status : Not Answered

Chosen Option : --

Comprehension:

In the following passage, some words have been deleted. Read the passage carefully and select the most appropriate option to fill in each blank.

The build up to the 2020 Tokyo Olympics, which (1) _____ on July 23 and finished on August 8, as defined by cautious optimism, as well as a slew of (2) _____ that came with staging the Games under tight safety standards and without (3) _____ during the COVID-19 outbreak. While Indian competitors had shown enough potential to (4) _____ expect a big return of medals in the Games, the disappointments of Rio 2016 lingered. What happened was that India delivered its best-ever performance at the Games, beginning with Mirabai Chanu's silver medal in weightlifting on the first day and culminating with Neeraj Chopra's (5) _____ gold medal in javelin throw on the country's last day of competition in Tokyo.

SubQuestion No : 16

Q.16 Select the most appropriate option to fill in blank no. 1.

- Ans
- 1. beginning
 - 2. begin
 - 3. began
 - 4. begun

Question ID : 26433058733

Status : Not Answered

Chosen Option : --

Comprehension:

In the following passage, some words have been deleted. Read the passage carefully and select the most appropriate option to fill in each blank.

The build up to the 2020 Tokyo Olympics, which (1)_____ on July 23 and finished on August 8, as defined by cautious optimism, as well as a slew of (2)_____ that came with staging the Games under tight safety standards and without (3)_____ during the COVID-19 outbreak. While Indian competitors had shown enough potential to (4)_____ expect a big return of medals in the Games, the disappointments of Rio 2016 lingered. What happened was that India delivered its best-ever performance at the Games, beginning with Mirabai Chanu's silver medal in weightlifting on the first day and culminating with Neeraj Chopra's (5)_____ gold medal in javelin throw on the country's last day of competition in Tokyo.

SubQuestion No : 17

Q.17 Select the most appropriate option to fill in blank no. 2.

- Ans
- 1. certainty
 - 2. configuration
 - 3. enjoyment
 - 4. anxiety

Question ID : 26433058734

Status : Not Answered

Chosen Option : --

Comprehension:

In the following passage, some words have been deleted. Read the passage carefully and select the most appropriate option to fill in each blank.

The build up to the 2020 Tokyo Olympics, which (1)_____ on July 23 and finished on August 8, as defined by cautious optimism, as well as a slew of (2)_____ that came with staging the Games under tight safety standards and without (3)_____ during the COVID-19 outbreak. While Indian competitors had shown enough potential to (4)_____ expect a big return of medals in the Games, the disappointments of Rio 2016 lingered. What happened was that India delivered its best-ever performance at the Games, beginning with Mirabai Chanu's silver medal in weightlifting on the first day and culminating with Neeraj Chopra's (5)_____ gold medal in javelin throw on the country's last day of competition in Tokyo.

SubQuestion No : 18

Q.18 Select the most appropriate option to fill in blank no. 3.

- Ans
- 1. spectators
 - 2. tools
 - 3. athletes
 - 4. preachers

Question ID : 26433058735

Status : Not Answered

Chosen Option : --

Comprehension:

In the following passage, some words have been deleted. Read the passage carefully and select the most appropriate option to fill in each blank.

The build up to the 2020 Tokyo Olympics, which (1)_____ on July 23 and finished on August 8, as defined by cautious optimism, as well as a slew of (2)_____ that came with staging the Games under tight safety standards and without (3)_____ during the COVID-19 outbreak. While Indian competitors had shown enough potential to (4)_____ expect a big return of medals in the Games, the disappointments of Rio 2016 lingered. What happened was that India delivered its best-ever performance at the Games, beginning with Mirabai Chanu's silver medal in weightlifting on the first day and culminating with Neeraj Chopra's (5)_____ gold medal in javelin throw on the country's last day of competition in Tokyo.

SubQuestion No : 19

Q.19 Select the most appropriate option to fill in blank no. 4.

- Ans
- 1. constitutionally
 - 2. authoritatively
 - 3. casually
 - 4. legitimately

Question ID : 26433058736

Status : Not Answered

Chosen Option : --

Comprehension:

In the following passage, some words have been deleted. Read the passage carefully and select the most appropriate option to fill in each blank.

The build up to the 2020 Tokyo Olympics, which (1)_____ on July 23 and finished on August 8, as defined by cautious optimism, as well as a slew of (2)_____ that came with staging the Games under tight safety standards and without (3)_____ during the COVID-19 outbreak. While Indian competitors had shown enough potential to (4)_____ expect a big return of medals in the Games, the disappointments of Rio 2016 lingered. What happened was that India delivered its best-ever performance at the Games, beginning with Mirabai Chanu's silver medal in weightlifting on the first day and culminating with Neeraj Chopra's (5)_____ gold medal in javelin throw on the country's last day of competition in Tokyo.

SubQuestion No : 20

Q.20 Select the most appropriate option to fill in blank no. 5.

- Ans
- 1. non-fictional
 - 2. insignificant
 - 3. historic
 - 4. Asiatic

Question ID : 26433058737

Status : Not Answered

Chosen Option : --

Q.1 नीचे दिए गए वाक्य में प्रयुक्त गलत विभक्ति चिह्न को पहचानकर बताइए कि उसके स्थान पर कौन सा विभक्ति चिह्न सही होगा?
'अच्छी सेहत को प्रतिदिन योग करना चाहिए।'

- Ans
- 1. द्वारा
 - 2. से
 - 3. में
 - 4. के लिए

Question ID : 26433062866
Status : Answered
Chosen Option : 4

Q.2 'अनंत विश्व में अनेक देवताओं की कहानियाँ प्रचलित हैं।' इस वाक्य में प्रयुक्त 'अनंत' शब्द निम्न में से किस अर्थ को व्यक्त करता है?

- Ans
- 1. आकाश
 - 2. अंतहीन
 - 3. शेष
 - 4. ईश्वर

Question ID : 26433069728
Status : Answered
Chosen Option : 4

Q.3 निम्नलिखित में से शुद्ध वाक्य है-

- Ans
- 1. हमलोग उत्तर लिखते हैं।
 - 2. हमलोग उतर लिखते हैं।
 - 3. हम लोग उत्तर लिखते हैं।
 - 4. हमलोग उत्तर लिखत हैं।

Question ID : 26433080933
Status : Answered
Chosen Option : 3

Q.4 निम्नलिखित वाक्य में रेखांकित शब्द के स्थान पर सर्वोचित विकल्प चुनिए।
'वह इस आशा में विश्राम करता रहा कि मुझसे मुलाक़ात हो जाएगी।'

- Ans
- 1. विश्वास
 - 2. परिश्रम
 - 3. प्रतीक्षा
 - 4. उपासना

Question ID : 26433084964
Status : Answered
Chosen Option : 3

Q.5 'रात और संध्या के बीच की वेला' वाक्यांश के लिए सार्थक शब्द है-

- Ans
- 1. पर्णी
 - 2. गोधूलि
 - 3. भोर
 - 4. क्षितिज

Question ID : 26433065868
Status : Answered
Chosen Option : 3

Q.6 'जो किये गये उपकारों को मानता है' वाक्यांश के लिए एक शब्द _____ है।

- Ans
- 1. कृतघ्न
 - 2. कृपण
 - 3. कारीगर
 - 4. कृतज्ञ

Question ID : 26433062938
Status : Answered
Chosen Option : 4

Q.7 निम्नलिखित शब्द के सही पर्यायवाची शब्द का चयन विकल्पों में से कीजिए।
सुंदर

- Ans
- 1. माणिक
 - 2. भानु
 - 3. ललित
 - 4. पीताम्बर

Question ID : 26433066942
Status : Answered
Chosen Option : 1

Q.8 हमारे माता-पिता का तो कहना ही यही है कि सबके साथ भला करो, यदि _____ ।
रिक्त स्थान की पूर्ति उचित मुहावरे द्वारा कीजिए।

- Ans
- 1. अपना काम स्वयं करो
 - 2. परोपकार सर्वोपरि है
 - 3. आप काज महाकाज
 - 4. आप भले तो जग भला

Question ID : 26433062603
Status : Answered
Chosen Option : 2

Q.9 'वह आंख से कुबड़ा है।' इस वाक्य में रेखांकित शब्द के अर्थ स्थान पर उचित शब्द क्या होगा?

- Ans
- 1. बहरा
 - 2. गूंगा
 - 3. वाचाल
 - 4. दृष्टिहीन

Question ID : 26433062203

Status : Answered

Chosen Option : 4

Q.10 निम्नलिखित में से किस वाक्य में सर्वनाम सम्बन्धी अशुद्धि है?

- Ans
- 1. हम अपना काम स्वयं करता हूँ।
 - 2. वह अपना और अपनी सखी का काम करेगी।
 - 3. तुम यह पुस्तक पढ़ कर देखो।
 - 4. यह पुस्तक बहुत उपयोगी है।

Question ID : 26433062999

Status : Not Attempted and Marked For Review

Chosen Option : --

Q.11 'सौ वर्ष का समय' वाक्यांश के लिए एक शब्द होगा-

- Ans
- 1. शताब्दी
 - 2. युग
 - 3. सहस्राब्दी
 - 4. वार्षिक

Question ID : 26433065733

Status : Answered

Chosen Option : 1

Q.12 निम्नलिखित वाक्य में कौन से भाग में त्रुटि है?
'बिद्वानो का दल आ रहा है।'

- Ans
- 1. बिद्वानो
 - 2. दल
 - 3. का
 - 4. आ रहा है।

Question ID : 26433063063

Status : Answered

Chosen Option : 1

Q.13 'अनुराग' का विलोम है-

- Ans 1. विराग
 2. सुहाग
 3. वियोग
 4. विहंग

Question ID : 26433062923

Status : Answered

Chosen Option : 1

Q.14 'फैला अपने रवि कर जाल।'।

उपरोक्त वाक्य में प्रयुक्त 'कर' शब्द निम्न में से किस अर्थ को व्यक्त करता है?

- Ans 1. सूँड़
 2. हाथ
 3. टैक्स
 4. किरण

Question ID : 26433069732

Status : Answered

Chosen Option : 4

Q.15 निम्नलिखित वाक्य के रिक्त स्थान में सबसे उपयुक्त मुहावरा क्या होगा?

'बुद्धिजीवी और पत्रकार _____ खाते हैं।'

- Ans 1. अक्ल की रोटी
 2. घास की रोटी
 3. गेहूँ की रोटी
 4. मक्के की रोटी

Question ID : 26433066734

Status : Answered

Chosen Option : 1

Comprehension:

निम्नलिखित गद्यांश में कुछ शब्दों को हटा दिया गया है। दिए गए विकल्पों की सहायता से रिक्त स्थानों की पूर्ति कीजिए। प्रत्येक संख्या के लिए सबसे उपयुक्त विकल्प का चयन कीजिए।
"जैसी संगति बैठिये तैसोई फल दीन" उक्ति का अर्थ है-मनुष्य जिस 1. _____ में बैठता है, उसे वैसा ही फल मिलता है। बुरे की संगति में 2. _____ मिलता है। अच्छे के साथ रहने से अच्छा परिणाम निकलता है। यदि सज्जन 3. _____ से घिरा रहेगा तो दुर्जनों के अवगुण उस पर अवश्य प्रभाव छोड़ेंगे। जिन मित्रों के साथ हम रहते हैं, उनके 4. _____ से बचना अत्यंत कठिन है। यदि मित्र अच्छे होंगे तो हमें 5. _____ की ओर अग्रसर करेंगे।

SubQuestion No : 16

Q.16 रिक्त स्थान 1 की पूर्ति के लिए सबसे उपयुक्त विकल्प का चयन करें।

- Ans 1. अकेला
 2. जगह
 3. संगति
 4. चौराहे

Question ID : 264330110867

Status : Answered

Chosen Option : 3

Comprehension:

निम्नलिखित गद्यांश में कुछ शब्दों को हटा दिया गया है। दिए गए विकल्पों की सहायता से रिक्त स्थानों की पूर्ति कीजिए। प्रत्येक संख्या के लिए सबसे उपयुक्त विकल्प का चयन कीजिए।
"जैसी संगति बैठिये तैसीई फल दीन" उक्ति का अर्थ है-मनुष्य जिस 1. _____ में बैठता है, उसे वैसा ही फल मिलता है। बुरे की संगति में 2. _____ मिलता है। अच्छे के साथ रहने से अच्छा परिणाम निकलता है। यदि सज्जन 3. _____ से घिरा रहेगा तो दुर्जनों के अवगुण उस पर अवश्य प्रभाव छोड़ेंगे। जिन मित्रों के साथ हम रहते हैं, उनके 4. _____ से बचना अत्यंत कठिन है। यदि मित्र अच्छे होंगे तो हमें 5. _____ की ओर अग्रसर करेंगे।

SubQuestion No : 17

Q.17 रिक्त स्थान 2 की पूर्ति के लिए सबसे उपयुक्त विकल्प का चयन करें।

- Ans 1. बुरा फल
 2. कडवा फल
 3. मीठा फल
 4. खट्टा फल

Question ID : 264330110868

Status : Answered

Chosen Option : 1

Comprehension:

निम्नलिखित गद्यांश में कुछ शब्दों को हटा दिया गया है। दिए गए विकल्पों की सहायता से रिक्त स्थानों की पूर्ति कीजिए। प्रत्येक संख्या के लिए सबसे उपयुक्त विकल्प का चयन कीजिए।
"जैसी संगति बैठिये तैसीई फल दीन" उक्ति का अर्थ है-मनुष्य जिस 1. _____ में बैठता है, उसे वैसा ही फल मिलता है। बुरे की संगति में 2. _____ मिलता है। अच्छे के साथ रहने से अच्छा परिणाम निकलता है। यदि सज्जन 3. _____ से घिरा रहेगा तो दुर्जनों के अवगुण उस पर अवश्य प्रभाव छोड़ेंगे। जिन मित्रों के साथ हम रहते हैं, उनके 4. _____ से बचना अत्यंत कठिन है। यदि मित्र अच्छे होंगे तो हमें 5. _____ की ओर अग्रसर करेंगे।

SubQuestion No : 18

Q.18 रिक्त स्थान 3 की पूर्ति के लिए सबसे उपयुक्त विकल्प का चयन करें।

- Ans 1. सज्जनों
 2. शीलवान
 3. दुर्जनों
 4. नेक

Question ID : 264330110869

Status : Answered

Chosen Option : 3

Comprehension:

निम्नलिखित गद्यांश में कुछ शब्दों को हटा दिया गया है। दिए गए विकल्पों की सहायता से रिक्त स्थानों की पूर्ति कीजिए। प्रत्येक संख्या के लिए सबसे उपयुक्त विकल्प का चयन कीजिए।
"जैसी संगति बैठिये तैसी फल दीन" उक्ति का अर्थ है-मनुष्य जिस 1. _____ में बैठता है, उसे वैसा ही फल मिलता है। बुरे की संगति में 2. _____ मिलता है। अच्छे के साथ रहने से अच्छा परिणाम निकलता है। यदि सज्जन 3. _____ से घिरा रहेगा तो दुर्जनों के अवगुण उस पर अवश्य प्रभाव छोड़ेंगे। जिन मित्रों के साथ हम रहते हैं, उनके 4. _____ से बचना अत्यंत कठिन है। यदि मित्र अच्छे होंगे तो हमें 5. _____ की ओर अग्रसर करेंगे।

SubQuestion No : 19

Q.19 रिक्त स्थान 4 की पूर्ति के लिए सबसे उपयुक्त विकल्प का चयन करें।

- Ans
- 1. कुप्रभाव
 - 2. दुष्प्रभाव
 - 3. गौण प्रभाव
 - 4. प्रभाव

Question ID : 264330110870

Status : Answered

Chosen Option : 2

Comprehension:

निम्नलिखित गद्यांश में कुछ शब्दों को हटा दिया गया है। दिए गए विकल्पों की सहायता से रिक्त स्थानों की पूर्ति कीजिए। प्रत्येक संख्या के लिए सबसे उपयुक्त विकल्प का चयन कीजिए।
"जैसी संगति बैठिये तैसी फल दीन" उक्ति का अर्थ है-मनुष्य जिस 1. _____ में बैठता है, उसे वैसा ही फल मिलता है। बुरे की संगति में 2. _____ मिलता है। अच्छे के साथ रहने से अच्छा परिणाम निकलता है। यदि सज्जन 3. _____ से घिरा रहेगा तो दुर्जनों के अवगुण उस पर अवश्य प्रभाव छोड़ेंगे। जिन मित्रों के साथ हम रहते हैं, उनके 4. _____ से बचना अत्यंत कठिन है। यदि मित्र अच्छे होंगे तो हमें 5. _____ की ओर अग्रसर करेंगे।

SubQuestion No : 20

Q.20 रिक्त स्थान 5 की पूर्ति के लिए सबसे उपयुक्त विकल्प का चयन करें।

- Ans
- 1. चालाकी
 - 2. तीव्र
 - 3. अच्छाई
 - 4. बुराई

Question ID : 264330110871

Status : Answered

Chosen Option : 3

Constable GD in CAPFs SSF Rifleman GD in Assam Rifles and Sepoy in NCB Examination 2022

Roll Number	KD Job Updates
Candidate Name	KD Job Updates
Venue Name	iON Digital Zone iDZ 2 Patliputra
Exam Date	27/01/2023
Exam Time	11:45 AM - 12:45 PM
Subject	Constable GD Examination 2022

Section : Part-A-General Intelligence and Reasoning

Q.1 निम्नलिखित में से कौन-सा अक्षर-समूह दी गई श्रृंखला में प्रश्न-चिह्न (?) के स्थान पर आएगा?
SFJW, QHLU, ?, MLPQ, KNRO

- Ans
- 1. OKNR
 - 2. PJNR
 - 3. PJNS
 - 4. OJNS

Question ID : 26433076446
Status : Answered
Chosen Option : 4

Q.2 किस विकल्प में निम्नलिखित शब्दों का वह क्रम दिया गया है, जिस क्रम में वे अंग्रेजी शब्दकोश में आते हैं?
1 branch
2 brunch
3 bracket
4 brass
5 bread

- Ans
- 1. 3,1,5,4,2
 - 2. 3,1,4,5,2
 - 3. 1,3,4,5,2
 - 4. 3,1,4,2,5

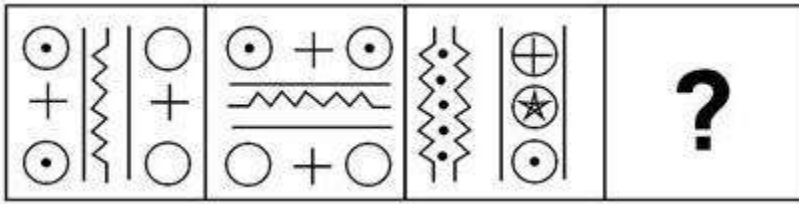
Question ID : 26433069297
Status : Answered
Chosen Option : 3

Q.3 निम्नलिखित में से कौन सी संख्याएँ दी गई श्रृंखला में प्रश्नचिह्नों (?) के स्थान पर आएंगी?
156, 144, 133, 123, 114, ?, 99, ?, 88, 84

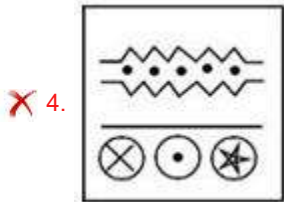
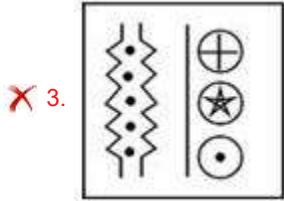
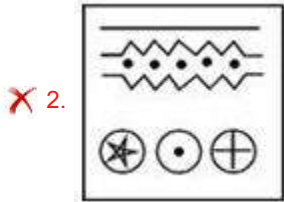
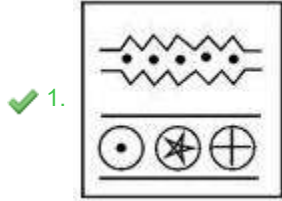
- Ans
- 1. 109, 91
 - 2. 107, 94
 - 3. 106, 93
 - 4. 110, 90

Question ID : 26433082867
Status : Answered
Chosen Option : 3

Q.4 वह विकल्प ज्ञात कीजिए जो तीसरी आकृति से उसी प्रकार संबंधित है जैसे दूसरी आकृति पहली आकृति से संबंधित है।
(पहला आकृति सबसे बाईं ओर की आकृति है।)



Ans



Question ID : 26433078864

Status : Answered

Chosen Option : 1

Q.5 कौन-सा अक्षर-समूह दी गई श्रृंखला में प्रश्नचिह्न (?) के स्थान पर आकर श्रृंखला को पूर्ण करेगा?
DFGI, JLMO, PRSU, VXYA, ?

Ans ✗ 1. BCFG

✓ 2. BDEG

✗ 3. BCDE

✗ 4. BDEF

Question ID : 26433067725

Status : Answered

Chosen Option : 2

Q.6 दी गई आकृति के सही दर्पण प्रतिबिम्ब का चयन करें जब दर्पण को MN पर रखा जाए जैसा कि नीचे दर्शाया गया है।

cALculATiVe

M

N

Ans

- ✓ 1. eViTAlucIAc
- ✗ 2. eViTAluClAc
- ✗ 3. eViTAlUcIAc
- ✗ 4. eViTAlucIAc

Question ID : 26433085551

Status : Answered

Chosen Option : 1

Q.7 नीचे दिए गए समीकरण को गणितीय रूप से सही बनाने के लिए किन दो चिन्हों को परस्पर बदलना चाहिए?

$$30 + 54 \div 18 - 48 \times 16 = 58$$

- Ans
- ✗ 1. ÷ और +
- ✓ 2. × और +
- ✗ 3. + और -
- ✗ 4. ÷ और ×

Question ID : 264330117542

Status : Answered

Chosen Option : 2

Q.8 उस विकल्प का चयन करें जो तीसरे शब्द से उसी प्रकार संबंधित है, जिस प्रकार दूसरा शब्द पहले शब्द से संबंधित है।

(शब्दों को अर्थपूर्ण शब्दों के रूप में माना जाना चाहिए और शब्द में अक्षरों की संख्या/व्यंजनों की संख्या/स्वरों की संख्या के आधार पर उन्हें एक-दूसरे से संबंधित नहीं किया जाना चाहिए)

मुर्गी : चूजा :: तितली : ?

- Ans
- ✗ 1. बछड़ा
- ✓ 2. इल्ली
- ✗ 3. हिरण का बच्चा
- ✗ 4. बिल्ली का बच्चा

Question ID : 26433082577

Status : Answered

Chosen Option : 2

Q.9 एक निश्चित कूट भाषा में 'BORED' को 'YLIVW' लिखा जाता है और 'FIGHT' को 'URTSG' लिखा जाता है। उस भाषा में 'PRINT' कैसे लिखा जाएगा?

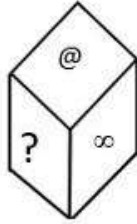
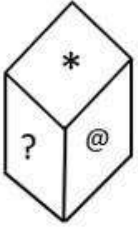
- Ans
- 1. FIRNK
 - 2. FJTNK
 - 3. KJSMG
 - 4. KIRMG

Question ID : 26433081511

Status : Answered

Chosen Option : 4

Q.10 *, ?, @, %, \$, ∞ प्रतीकों वाले एक ही पासे की दो अलग-अलग स्थितियों को दर्शाया गया है। '*' दर्शाने वाले फलक के विपरीत फलक पर प्रतीक ज्ञात कीजिए।



- Ans
- 1. ∞
 - 2. \$
 - 3. %
 - 4. @

Question ID : 26433089511

Status : Answered

Chosen Option : 1

Q.11 दिए गए समीकरण को संतुलित करने के लिए विकल्पों में दिए गए किन दो चिह्नों को परस्पर बदलना होगा?

$$210 \div 7 \times 320 \div (16 - 4 \times 15 \times 17) = 15 + 5$$

- Ans
- 1. + और -
 - 2. ÷ और +
 - 3. × और -
 - 4. × और +

Question ID : 26433082487

Status : Answered

Chosen Option : 3

Q.12 उस विकल्प का चयन करें जो तीसरे पद से उसी तरह से संबंधित है, जिस तरह से दूसरा पद पहले पद से संबंधित है।

GENERAL : 7514518112 :: RELATION : ?

Ans 1. 1851212091514

2. 198765432

3. 78905621

4. 17865432


Question ID : 26433067265

Status : Answered

Chosen Option : 1

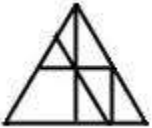
Q.13 उस विकल्प-आकृति का चयन कीजिए, जो प्रस्तुत आकृति में अंतर्निहित है।

(घुमाना अनुमन्य नहीं है)

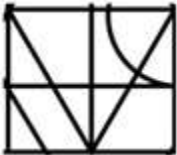


Ans

1.



2.



3.



4.



Question ID : 26433076579

Status : Answered

Chosen Option : 1

Q.14 निम्न में से कौन सी संख्या दी गई श्रृंखला में प्रश्नचिह्न (?) के स्थान पर आएगी?
3840, 384, ?, 8, 2, 1

- Ans 1. 58
 2. 48
 3. 38
 4. 28

Question ID : 26433076747

Status : Not Answered

Chosen Option : --

Q.15 उस विकल्प का चयन करें जो तीसरी संख्या से उसी प्रकार संबंधित है जिस प्रकार दूसरी संख्या पहली संख्या से संबंधित है और छठवीं संख्या पाँचवीं संख्या से संबंधित है।
4 : 96 :: 13 : ? :: 9 : 161

- Ans 1. 247
 2. 249
 3. 240
 4. 169

Question ID : 26433069190

Status : Not Answered

Chosen Option : --

Q.16 P @ Q का अर्थ है 'P, Q की बहन है'
P & Q का अर्थ है 'P, Q का भाई है'
P # Q का अर्थ है 'P, Q की माता है'
यदि A # B @ C & D # E @ F है, तो B, F से किस प्रकार संबंधित है?

- Ans 1. नानी
 2. भाई
 3. बहन
 4. मौसी

Question ID : 26433081684

Status : Answered

Chosen Option : 4

Q.17 दिए गए कथनों और निष्कर्षों को ध्यानपूर्वक पढ़िए। यह मानते हुए कि कथनों में दी गई जानकारी सत्य है, भले ही वह सामान्य रूप से ज्ञात तथ्यों से भिन्न प्रतीत होती हो, तब कीजिये कि दिए गए निष्कर्षों में से कौन सा/से कथनों का तार्किक रूप से अनुसरण करता है/करते हैं।

कथन:

- सभी चूहे, शेर हैं
- कुछ चूहे, सियार हैं
- कोई सियार, नेवला नहीं है

निष्कर्ष:

- I. कुछ सियार, शेर हैं
- II. कुछ चूहे, नेवले नहीं हैं
- III. कोई नेवला, शेर नहीं है

- Ans
- 1. केवल निष्कर्ष I अनुसरण करता है
 - 2. निष्कर्ष I, II या III में से कोई भी अनुसरण नहीं करता है
 - 3. निष्कर्ष I और II दोनों अनुसरण करते हैं
 - 4. केवल निष्कर्ष II अनुसरण करता है

Question ID : 26433082662

Status : Answered

Chosen Option : 1

Q.18 एक कूट भाषा में, 'corrupt men' को 'vu ka', 'he is corrupt' को 'hu na vu', 'she is serious' को 'po na du', और 'she faints' को 'po gu' के रूप में कूटबद्ध किया जाता है। शब्द 'serious' के लिए कूट क्या होगा?

- Ans
- 1. hu
 - 2. gu
 - 3. vu
 - 4. du

Question ID : 26433069467

Status : Answered

Chosen Option : 4

Q.19 सात व्यक्ति E, F, G, H, I, J और K एक सीधी पंक्ति में उत्तर की ओर मुख करके बैठे हैं। H, I के बाईं ओर चौथे स्थान पर बैठा है। K, F के बाईं ओर तीसरे स्थान पर बैठा है। J, F के दाईं ओर तीसरे स्थान पर बैठा है। G, K के दाईं ओर चौथे स्थान पर बैठा है। पंक्ति के बाएं सिरे से तीसरे स्थान पर कौन बैठा है?

- Ans
- 1. F
 - 2. H
 - 3. E
 - 4. G

Question ID : 26433068280

Status : Marked For Review

Chosen Option : 3

Q.20 छः मित्र P, Q, R, S, T और U, एक वृत्ताकार मेज के परितः मेज के केंद्र की ओर मुख करके बैठे हैं। P, U के दाईं ओर दूसरे स्थान पर बैठा है। R, Q के दाईं ओर तीसरे स्थान पर बैठा है। S और R, दोनों ही P के ठीक बगल में हैं। Q और U के बीच में कौन बैठा है?

- Ans 1. P
 2. T
 3. R
 4. S

Question ID : 26433092773

Status : Answered

Chosen Option : 2

Section : Part-B-General Knowledge and General awareness

Q.1 कौन-सी योजना भारत सरकार द्वारा बेरोजगार शिक्षित युवाओं के लिए स्वरोजगार के अवसरों के निर्माण हेतु शुरू की गई थी?

- Ans 1. ग्रामीण उद्यमी योजना
 2. राष्ट्रीय ग्रामीण रोजगार गारंटी अधिनियम
 3. अन्नपूर्णा योजना
 4. प्रधानमंत्री रोजगार योजना

Question ID : 264330116067

Status : Answered

Chosen Option : 4

Q.2 वे सभी बैंक, जो भारतीय रिजर्व बैंक अधिनियम, 1934 की _____ अनुसूची में शामिल हैं, अनुसूचित बैंक हैं।

- Ans 1. दूसरी
 2. पांचवीं
 3. तीसरी
 4. पहली

Question ID : 264330115329

Status : Answered

Chosen Option : 2

Q.3 भारत में, सूचना प्रौद्योगिकी अधिनियम _____ वर्ष में पारित किया गया था।

- Ans 1. 2008
 2. 2005
 3. 2000
 4. 2001

Question ID : 264330116213

Status : Answered

Chosen Option : 2

Q.4 भारत के किस राज्य ने 2015 के भारत के राष्ट्रीय खेलों की मेजबानी की?

- Ans
- 1. गुजरात
 - 2. गोवा
 - 3. हरियाणा
 - 4. केरल

Question ID : 264330115923

Status : Marked For Review

Chosen Option : 4

Q.5 कलामंडलम रमनकुट्टी नायर को किस नृत्य शैली में उनके योगदान के लिए पद्म भूषण से सम्मानित किया गया।

- Ans
- 1. मणिपुरी
 - 2. कथक
 - 3. लावणी
 - 4. कथकली

Question ID : 264330115867

Status : Answered

Chosen Option : 4

Q.6 भारत के पहले लैवेंडर उत्सव का उद्घाटन मई 2022 में _____ में किया गया था।

- Ans
- 1. केरल
 - 2. दिल्ली
 - 3. असम
 - 4. जम्मू और कश्मीर

Question ID : 264330115104

Status : Answered

Chosen Option : 4

Q.7 निम्नलिखित में से कौन सा एक कृषि आधारित उद्योग है?

- Ans
- 1. पेट्रोरसायन
 - 2. लोहा तथा इस्पात
 - 3. रेशम वस्त्र
 - 4. सीमेंट

Question ID : 264330115576

Status : Answered

Chosen Option : 3

Q.8 गरबा लोक नृत्य भारत के निम्नलिखित में से किस राज्य से संबंधित है?

- Ans
- 1. महाराष्ट्र
 - 2. गुजरात
 - 3. राजस्थान
 - 4. मध्य प्रदेश

Question ID : 26433074072

Status : Answered

Chosen Option : 2

Q.9 मौलिक कर्तव्यों के बारे में अनुशासन करने के लिए _____ समिति का गठन किया गया था।

- Ans
- 1. स्वामीनाथन
 - 2. बलवंत राय मेहता
 - 3. स्वर्ण सिंह
 - 4. बिबेक देबरॉय

Question ID : 26433090665

Status : Answered

Chosen Option : 3

Q.10 उन्होंने मातृभूमि के लिए 'वंदे मातरम्' गीत की रचना की थी। यहां 'उन्होंने' किसे कहा जा रहा है?

- Ans
- 1. अरबिंदो घोष
 - 2. जवाहर लाल नेहरू
 - 3. बंकिम चन्द्र चट्टोपाध्याय
 - 4. रविन्द्रनाथ टैगोर

Question ID : 264330115719

Status : Answered

Chosen Option : 3

Q.11 निम्नलिखित उदाहरण में, प्राथमिक मांसाहारी कौन है?
घास-टिड्डा-मेंढक-सांप-बाज़

- Ans
- 1. बाज़
 - 2. टिड्डा
 - 3. घास
 - 4. मेंढक

Question ID : 264330115195

Status : Answered

Chosen Option : 2

Q.12 C_2H_5OH _____ का रासायनिक सूत्र है।

- Ans
- 1. इथेनॉल
 - 2. मीथेन
 - 3. ब्यूटेन
 - 4. प्रोपीन

Question ID : 26433091491
Status : Answered
Chosen Option : 1

Q.13 लोकसभा का सदस्य होने के लिए न्यूनतम आयु कितनी होनी चाहिए?

- Ans
- 1. 30
 - 2. 32
 - 3. 35
 - 4. 25

Question ID : 26433086845
Status : Marked For Review
Chosen Option : 1

Q.14 अगस्त 2022 में, भारत के राष्ट्रपति के सचिव के रूप में किसे नियुक्त किया गया?

- Ans
- 1. IAS राजेश वर्मा
 - 2. IFS विवेक कुमार
 - 3. IFS संजीव कुमार सिंगला
 - 4. डॉ. हिरेन जोशी

Question ID : 264330115032
Status : Answered
Chosen Option : 3

Q.15 $Fe + CuSO_4 \rightarrow FeSO_4 + Cu$

यह _____ अभिक्रिया का एक उदाहरण है।

- Ans
- 1. अपोपचयन
 - 2. निष्प्रभावीकरण
 - 3. विस्थापन
 - 4. प्रतिवर्ती

Question ID : 264330115163
Status : Answered
Chosen Option : 3

Q.16 किस भारतीय क्रिकेटर को "द वॉल" के नाम से जाना जाता है?

- Ans
- 1. हरभजन सिंह
 - 2. राहुल द्रविड़
 - 3. महेंद्र सिंह धोनी
 - 4. सचिन तेंदुलकर

Question ID : 264330116281

Status : Marked For Review

Chosen Option : 4

Q.17 ब्रिटिश औपनिवेशिक शासन के तहत भारत की अर्थव्यवस्था मूल रूप से कृषि प्रधान रही। उस समय देश की लगभग कितने प्रतिशत जनसंख्या कृषि से प्रत्यक्ष या अप्रत्यक्ष रूप से आजीविका प्राप्त करती थी?

- Ans
- 1. 65
 - 2. 60
 - 3. 85
 - 4. 70

Question ID : 264330116147

Status : Not Answered

Chosen Option : --

Q.18 निम्नलिखित में से किसे अक्टूबर 2022 में भारतीय क्रिकेट कंट्रोल बोर्ड (BCCI) के अध्यक्ष के रूप में चुना गया था?

- Ans
- 1. जय शाह
 - 2. रोजर बिन्नी
 - 3. सौरव गांगुली
 - 4. विराट कोहली

Question ID : 264330114928

Status : Answered

Chosen Option : 2

Q.19 2019-20 में, भारत में _____ किमी ब्रॉड गेज रेलवे लाइन थी।

- Ans
- 1. 63950
 - 2. 73400
 - 3. 61200
 - 4. 65700

Question ID : 264330115392

Status : Not Answered

Chosen Option : --

Q.20 निम्नलिखित में से कौन मौर्य साम्राज्य का संस्थापक था?

- Ans
- 1. समुद्रगुप्त
 - 2. चंद्रगुप्त द्वितीय
 - 3. अशोक
 - 4. चंद्रगुप्त मौर्य

Question ID : 26433090571

Status : Answered

Chosen Option : 4

Section : Part-C-Elementary Mathematics

Q.1 यदि एक शंकु के आधार की त्रिज्या और तिर्यक ऊँचाई क्रमशः 13 cm और 35 cm है, तो शंकु का वक्र पृष्ठीय क्षेत्रफल क्या होगा?

- Ans
- 1. 1440 cm²
 - 2. 1470 cm²
 - 3. 1484 cm²
 - 4. 1430 cm²

Question ID : 26433075707

Status : Answered

Chosen Option : 4

Q.2 किसी यात्रा की एक तिहाई दूरी 30 km/h की चाल से, एक चौथाई दूरी 50 km/h की चाल से और शेष दूरी 60 km/h की चाल से तय की जाती है। समग्र यात्रा के लिए औसत चाल (दशमलव के 2 स्थान तक पूर्णांकित) ज्ञात कीजिए।

- Ans
- 1. 45.37 km/h
 - 2. 43.37 km/h
 - 3. 44.37 km/h
 - 4. 42.37 km/h

Question ID : 26433080154

Status : Answered

Chosen Option : 4

Q.3 21 cm त्रिज्या वाले एक ठोस धातु के गोले को पिघलाया जाता है और छोटे लम्ब वृत्तीय शंकुओं में ढाला जाता है, प्रत्येक की त्रिज्या 7 cm और ऊँचाई 3 cm होती है। ऐसे शंकुओं की संख्या ज्ञात करें।

- Ans
- 1. 252
 - 2. 186
 - 3. 126
 - 4. 224

Question ID : 26433075487

Status : Answered

Chosen Option : 1

Q.4 शराब-पानी का एक घोल क्रमशः 7 : 1 के अनुपात से बना है, इस घोल में शराब की प्रतिशत सांद्रता ज्ञात कीजिए।

- Ans
- 1. 76.3%
 - 2. 52.9%
 - 3. 87.5%
 - 4. 49.4%

Question ID : 26433080012
Status : Answered
Chosen Option : 3

Q.5 30, 36 और 40 के लघुत्तम समापवर्तक को 10 से विभाजित किया जाता है। परिणाम X का वर्ग है। X का मान ज्ञात करें।

- Ans
- 1. 7
 - 2. 6
 - 3. 5
 - 4. 4

Question ID : 264330116645
Status : Answered
Chosen Option : 2

Q.6 अरुण ने एक स्कूल में अंग्रेजी शिक्षक की नौकरी के लिए आवेदन किया था। नौकरी के लिए दिए गए टेस्ट में उन्होंने बोलने में 9, सुनने में 8, लिखने में 6 और साक्षात्कार में 7 अंक हासिल किए। अंतिम अंक की गणना के लिए क्रमशः बोलने, सुनने, लिखने और साक्षात्कार के लिए 4, 3, 3 और 4 के भार निर्धारित किए गए थे। अरुण का भारित औसत स्कोर क्या है? (दो दशमलव स्थानों तक पूर्णांकित करें)

- Ans
- 1. 7.57
 - 2. 7.75
 - 3. 6.95
 - 4. 7.45

Question ID : 26433082496
Status : Not Answered
Chosen Option : --

Q.7 एक विक्रेता अपने अंगूरों को लागत मूल्य पर बेचने का दावा करता है लेकिन गलत वजन का उपयोग करके फिर भी वह $11\frac{1}{9}\%$ का लाभ प्राप्त करता है। वह 1 किग्रा के स्थान पर कितने वजन का प्रयोग करता है?

- Ans
- 1. 900 g
 - 2. 10 g
 - 3. 990 g
 - 4. 850 g

Question ID : 26433074925
Status : Not Answered
Chosen Option : --

Q.8 यदि $30 + 180 \div 30 \times 6 - 15 - 16 - 60 \div n - 15 = 0$, तो n का मान _____ है।

Ans 1. 2

2. 3

3. 0

4. 1

Question ID : 26433075488

Status : Not Answered

Chosen Option : --

Q.9 एक चाँदी की दुकान के मालिक का दावा है कि वह ₹65/g पर चाँदी बेच रहा है, जबकि क्रय मूल्य ₹70/g है, लेकिन वह 1 g के स्थान पर 900 mg दे रहा है। दुकान के मालिक का लाभ या हानि प्रतिशत (2 दशमलव स्थान तक सही) _____ है।

Ans 1. 3.17% लाभ

2. 3.12% हानि

3. 3.27% हानि

4. 3.07% लाभ

Question ID : 26433079931

Status : Not Answered

Chosen Option : --

Q.10 दो धावक क्रमशः 18 km/h और 20 km/h की चाल से समान दूरी तय करते हैं। यदि पहले धावक को दूसरे धावक की तुलना में 15 मिनट अधिक समय लगता है, तो उनके द्वारा तय की गई दूरी ज्ञात कीजिए।

Ans 1. 42 km

2. 46 km

3. 45 km

4. 40 km

Question ID : 26433075119

Status : Answered

Chosen Option : 3

Q.11 रवि और सुहास क्रमशः 2 km/h और 4 km/h की चाल से A से B तक चलते हैं जिनके बीच की दूरी 24 km है। सुहास B पर पहुँचता है, और तुरंत वापस लौटता है और C पर रवि से मिलता है। A से C के बीच की दूरी ज्ञात कीजिए।

Ans 1. 16 km

2. 15 km

3. 12 km

4. 20 km

Question ID : 26433065097

Status : Answered

Chosen Option : 1

Q.12 यदि 27 : 81 :: x : 63 है, तो x का मान ज्ञात कीजिए।

Ans 1. 42

2. 21

3. 36

4. 27

Question ID : 26433079774

Status : Answered

Chosen Option : 2

Q.13 Rs.5,000 पर 30% की एकल छूट और 17% एवं 13% की दो क्रमिक छूटों के बीच का अंतर _____ है।

Ans 1. Rs.850.00

2. Rs.539.50

3. Rs.1,389.50

4. Rs.110.50

Question ID : 26433080317

Status : Answered

Chosen Option : 4

Q.14 एक निश्चित धनराशि साधारण ब्याज दर पर 3 वर्ष में ₹26,980 हो जाती है और 8 वर्ष में ₹40,280 हो जाती है। ब्याज दर ज्ञात कीजिए।

Ans 1. 13%

2. 12%

3. 14%

4. 11%

Question ID : 26433066244

Status : Not Answered

Chosen Option : --

Q.15

निम्नलिखित में से कौन-सा अनुपात सबसे बड़ा है?

$\frac{3}{4}, \frac{1}{2}, \frac{7}{8}$ और $\frac{5}{6}$

Ans

✗ 1. $\frac{5}{6}$

✓ 2. $\frac{7}{8}$

✗ 3. $\frac{1}{2}$

✗ 4. $\frac{3}{4}$

Question ID : 26433076007

Status : Answered

Chosen Option : 2

Q.16 एक गाँव की जनसंख्या 1 वर्ष में 90000 से बढ़कर 98000 हो गई। जनसंख्या वृद्धि दर ज्ञात कीजिए।
(एक दशमलव स्थान तक पूर्णांकित)

Ans

✗ 1. 9.2%

✓ 2. 8.9%

✗ 3. 7.6%

✗ 4. 6.2%

Question ID : 26433080043

Status : Answered

Chosen Option : 2

Q.17 यदि 6 पुरुष किसी काम को 4 दिनों में पूरा कर सकते हैं और 3 महिलाएँ उसी काम को 7 दिनों में पूरा कर सकती हैं, तो उसी काम को 8 पुरुषों और 3 महिलाओं द्वारा पूरा करने में लगने वाला समय ज्ञात कीजिए।

Ans

✓ 1. $\frac{21}{10}$ दिन

✗ 2. $\frac{24}{13}$ दिन

✗ 3. $\frac{25}{12}$ दिन

✗ 4. $\frac{22}{15}$ दिन

Question ID : 26433066322

Status : Answered

Chosen Option : 1

Q.18 8 वर्ष के बच्चे का भार 20 kg है। 15 वर्ष की आयु तक पहुंचते पहुंचते उसका भार 42 kg हो जाता है। भार में कितने प्रतिशत वृद्धि हुई है?

- Ans
- 1. 80 प्रतिशत
 - 2. 120 प्रतिशत
 - 3. 110 प्रतिशत
 - 4. 100 प्रतिशत

Question ID : 264330116817

Status : Answered

Chosen Option : 2

Q.19 एक दुकानदार निम्नलिखित तीन छूट योजनाएं प्रदान करता है। किस योजना / किन योजनाओं में अधिकतम छूट प्रतिशत है/हैं?

- I. 5% और 20% की दो क्रमिक छूट
- II. 6 खरीदें, 2 मुफ्त पाएं
- III. 6 खरीदें, 4 मुफ्त पाएं

- Ans
- 1. केवल III
 - 2. केवल II
 - 3. केवल I
 - 4. केवल I और II

Question ID : 26433082975

Status : Answered

Chosen Option : 1

Q.20 संजू एक कार्य को 17 दिनों में कर सकता है और रोहन उसी कार्य को 68 दिनों में कर सकता है। समान कार्य को पूरा करने में कितना समय लगेगा, यदि वे बारी - बारी से एक - एक दिन कार्य करते हैं तथा संजू पहले दिन कार्य आरंभ करता है।

- Ans
- 1. 105/4 दिन
 - 2. 107/4 दिन
 - 3. 41/4 दिन
 - 4. 109/4 दिन

Question ID : 264330116897

Status : Answered

Chosen Option : 2

Q.1 Select the most appropriate option that can substitute the underlined segment in the given sentence. If there is no need to substitute it, select 'No substitution required'.

Men never have managed to abolish wars up to now but maybe they will find a way in future.

- Ans
- 1. will have never managed
 - 2. have never managed
 - 3. never has managed
 - 4. No substitution required

Question ID : 26433089091

Status : Not Answered

Chosen Option : --

Q.2 Parts of the following sentence have been given as options. One of them may contain an error. Select the part that contains the error from the given options. If you don't find any error, mark 'No error' as your answer.

Rover had eaten the pie before we gets home.

- Ans
- 1. we gets home
 - 2. Rover had eaten
 - 3. No error
 - 4. the pie before

Question ID : 26433090487

Status : Not Answered

Chosen Option : --

Q.3 Select the most appropriate synonym of the underlined word from the given options.

My grandmother, a pious lady, died peacefully in her village.

- Ans
- 1. Envious
 - 2. Attractive
 - 3. Devout
 - 4. Gallant

Question ID : 26433086515

Status : Not Answered

Chosen Option : --

Q.4 Identify the spelling error in the given sentence and select the option that rectifies the error.

It is necessary for candidates to carry their examination admit cards with them.

- Ans
- 1. examineition
 - 2. admit
 - 3. necessary
 - 4. candidets

Question ID : 26433060321

Status : Not Answered

Chosen Option : --

Q.5 Select the most appropriate meaning of the given idiom.

Bury the hatchet

- Ans
- 1. To convince someone
 - 2. To be in fear
 - 3. To end a quarrel
 - 4. To face a risk

Question ID : 26433073703
Status : Not Answered
Chosen Option : --

Q.6 Select the most appropriate ANTONYM of the given word.

Honest

- Ans
- 1. Foolish
 - 2. Corrupt
 - 3. Frank
 - 4. Open

Question ID : 26433072811
Status : Not Answered
Chosen Option : --

Q.7 Identify and correct the INCORRECTLY spelt word in the given sentence.
The monkees were snatching food from the passengers in the bus.

- Ans
- 1. pasengers
 - 2. snaching
 - 3. bas
 - 4. monkeys

Question ID : 26433072761
Status : Not Answered
Chosen Option : --

Q.8 Select the most appropriate option that can substitute the underlined segment in the given sentence.

The waiters were quick to replenish their stock of food.

- Ans
- 1. fill up
 - 2. take back
 - 3. look for
 - 4. ask for

Question ID : 26433099876
Status : Not Answered
Chosen Option : --

Q.9 Select the correct word for the blanks in the given sentence.

Venga boys is a famous musical _____ of the country and Madhu gave me a _____ on my birthday.

- Ans 1. band
 2. group
 3. troop
 4. ring

Question ID : 26433060533
Status : Not Answered
Chosen Option : --

Q.10 Select the most appropriate synonym of the word given in the bracket to fill in the blank.

You have _____ (built up) a lot of muscles by going to the gym.

- Ans 1. gained
 2. enhanced
 3. elevated
 4. boosted

Question ID : 26433084621
Status : Not Answered
Chosen Option : --

Q.11 Select the most appropriate ANTONYM of the given word.

Witty

- Ans 1. Fashionable
 2. Stupid
 3. Smart
 4. Interesting

Question ID : 26433084895
Status : Not Answered
Chosen Option : --

Q.12 Select the most appropriate option to fill in the blank.

The farmer _____ up and saw a tractor approaching him.

- Ans 1. cleared
 2. looked
 3. sit
 4. bent

Question ID : 26433085598
Status : Not Answered
Chosen Option : --

Q.13 Select the most appropriate meaning of the given idiom.

Chew someone out

- Ans 1. To scold someone
 2. Make someone laugh
 3. To eat
 4. To tackle a difficulty

Question ID : 26433073714
Status : Not Answered
Chosen Option : --

Q.14 Select the most appropriate synonym for the underlined word in the given sentence.

Her debonair combined with quick wit added to her oratory skills.

- Ans 1. charming
 2. churlish
 3. corpulent
 4. amorous

Question ID : 26433073751
Status : Not Answered
Chosen Option : --

Q.15 Select the most appropriate homonym to fill in the blank.

The annual extraction of this _____ costs around \$10,000,000.

- Ans 1. or
 2. ore
 3. o'er
 4. arc

Question ID : 26433088436
Status : Not Answered
Chosen Option : --

Comprehension:

In the following passage, some words have been deleted. Read the passage carefully and select the most appropriate option to fill in each blank.

The feeling of affection comes only if trust and respect are (1)_____. Without trust and respect, you feel that the other is (2)_____ to make you unhappy and/or does not wish well for you and hence you can never feel attraction for him/her. You always see each other as being in (3)_____. And that is why today in the family, you find that people have been living together for years and years and still don't feel (4)_____ to each other, because that basic trust and respect are missing. Affection comes when we (5)_____ that two or more persons want to make each other happy. Then for the first time, we feel that we are related to the other person. This feeling is called affection.

SubQuestion No : 16

Q.16 Select the most appropriate option to fill in blank number 1.

- Ans
- 1. confirmed
 - 2. ensured
 - 3. verified
 - 4. constrained

Question ID : 26433088527

Status : Not Answered

Chosen Option : --

Comprehension:

In the following passage, some words have been deleted. Read the passage carefully and select the most appropriate option to fill in each blank.

The feeling of affection comes only if trust and respect are (1)_____. Without trust and respect, you feel that the other is (2)_____ to make you unhappy and/or does not wish well for you and hence you can never feel attraction for him/her. You always see each other as being in (3)_____. And that is why today in the family, you find that people have been living together for years and years and still don't feel (4)_____ to each other, because that basic trust and respect are missing. Affection comes when we (5)_____ that two or more persons want to make each other happy. Then for the first time, we feel that we are related to the other person. This feeling is called affection.

SubQuestion No : 17

Q.17 Select the most appropriate option to fill in blank number 2.

- Ans
- 1. trying
 - 2. shying
 - 3. hesitated
 - 4. pressured

Question ID : 26433088528

Status : Not Answered

Chosen Option : --

Comprehension:

In the following passage, some words have been deleted. Read the passage carefully and select the most appropriate option to fill in each blank.

The feeling of affection comes only if trust and respect are (1)_____. Without trust and respect, you feel that the other is (2)_____ to make you unhappy and/or does not wish well for you and hence you can never feel attraction for him/her. You always see each other as being in (3)_____. And that is why today in the family, you find that people have been living together for years and years and still don't feel (4)_____ to each other, because that basic trust and respect are missing. Affection comes when we (5)_____ that two or more persons want to make each other happy. Then for the first time, we feel that we are related to the other person. This feeling is called affection.

SubQuestion No : 18

Q.18 Select the most appropriate option to fill in blank number 3.

- Ans
- 1. business
 - 2. affection
 - 3. opposition
 - 4. friendship

Question ID : 26433088529

Status : Not Answered

Chosen Option : --

Comprehension:

In the following passage, some words have been deleted. Read the passage carefully and select the most appropriate option to fill in each blank.

The feeling of affection comes only if trust and respect are (1)_____. Without trust and respect, you feel that the other is (2)_____ to make you unhappy and/or does not wish well for you and hence you can never feel attraction for him/her. You always see each other as being in (3)_____. And that is why today in the family, you find that people have been living together for years and years and still don't feel (4)_____ to each other, because that basic trust and respect are missing. Affection comes when we (5)_____ that two or more persons want to make each other happy. Then for the first time, we feel that we are related to the other person. This feeling is called affection.

SubQuestion No : 19

Q.19 Select the most appropriate option to fill in blank number 4.

- Ans
- 1. separated
 - 2. effected
 - 3. related
 - 4. affected

Question ID : 26433088530

Status : Not Answered

Chosen Option : --

Comprehension:

In the following passage, some words have been deleted. Read the passage carefully and select the most appropriate option to fill in each blank.

The feeling of affection comes only if trust and respect are (1)_____. Without trust and respect, you feel that the other is (2)_____ to make you unhappy and/or does not wish well for you and hence you can never feel attraction for him/her. You always see each other as being in (3)_____. And that is why today in the family, you find that people have been living together for years and years and still don't feel (4)_____ to each other, because that basic trust and respect are missing. Affection comes when we (5)_____ that two or more persons want to make each other happy. Then for the first time, we feel that we are related to the other person. This feeling is called affection.

SubQuestion No : 20

Q.20 Select the most appropriate option to fill in blank number 5.

- Ans 1. grant
 2. recognise
 3. confess
 4. permit

Question ID : 26433088531

Status : Not Answered

Chosen Option : --

Section : Part-D-Hindi

Q.1 निम्नलिखित वाक्य में रेखांकित खंड के स्थान पर प्रयुक्त होने वाले सबसे उपयुक्त विकल्प का चयन कीजिए।
मैंने कल दिल्ली जा रहा हूँ।

- Ans 1. हम
 2. मेरे
 3. मैं
 4. मुझे

Question ID : 26433079666

Status : Answered

Chosen Option : 3

Q.2 निम्नलिखित वाक्यांश के लिए उपयुक्त सार्थक शब्द क्या होगा?
जिसने इंद्र पर विजय प्राप्त की हो

- Ans 1. इन्द्रजय
 2. इंद्र विजय
 3. इंद्रजीत
 4. इंद्र जीता

Question ID : 26433073311

Status : Answered

Chosen Option : 3

Q.3 'प्रतिभा' शब्द के समानार्थी शब्द से निम्न वाक्य में रिक्त स्थान की पूर्ति कीजिए।
विजय में _____ शक्ति प्रबल है।

- Ans
- 1. शारीरिक
 - 2. पाचन
 - 3. मेधा
 - 4. धारण

Question ID : 26433079240
Status : Answered
Chosen Option : 1

Q.4 निम्न विकल्पों में से शुद्ध वाक्य का चयन कीजिए।

- Ans
- 1. राम ने पढ़ता होगा।
 - 2. लड़की पुस्तक पढ़ी है।
 - 3. सुरेश ने गीते गा रहा था।
 - 4. मेरे पिताजी से रोटी नहीं खाई जाती।

Question ID : 26433063077
Status : Answered
Chosen Option : 4

Q.5 निम्न वाक्य में रेखांकित शब्द का विलोम शब्द क्या होगा?
भारत विश्व का सबसे बड़ा 'लोकतंत्र' है।

- Ans
- 1. जनता का शासन
 - 2. जनता द्वारा शासन
 - 3. राजतंत्र
 - 4. भ्रष्टतंत्र

Question ID : 26433085074
Status : Answered
Chosen Option : 1

Q.6 'सारंग' निम्नलिखित में से किसका पर्यायवाची शब्द है?

- Ans
- 1. सितार
 - 2. हंस
 - 3. गधा
 - 4. हिरण

Question ID : 26433091171
Status : Answered
Chosen Option : 2

Q.7 निम्नलिखित वाक्य के किस शब्द में अशुद्धि है?
आगरा के निकट दो रेलगाड़ीयों की टक्कर हो गई।

- Ans
- 1. टक्कर
 - 2. निकट
 - 3. रेलगाड़ीयों
 - 4. आगरा

Question ID : 26433066766
Status : Answered
Chosen Option : 2

Q.8 निम्नलिखित मुहावरे का सही अर्थ क्या है?
छक्के छुड़ाना

- Ans
- 1. हरा देना
 - 2. साफ कर देना
 - 3. भुला देना
 - 4. भला बुरा करना

Question ID : 26433065768
Status : Answered
Chosen Option : 1

Q.9 निम्नलिखित मुहावरे के सही अर्थ का चयन विकल्पों में से कीजिए।
अगस्त्य का समुद्र पान

- Ans
- 1. रहस्य छुपा रखना
 - 2. असंभव कार्य करना
 - 3. दिमाग काम न करना
 - 4. समझ में कुछ न आना

Question ID : 26433070008
Status : Answered
Chosen Option : 1

Q.10 निम्नलिखित में से कौन सा एक विशेषण शब्द नहीं है?

- Ans
- 1. आप
 - 2. पुराना
 - 3. काला
 - 4. दोगुना

Question ID : 26433085050
Status : Answered
Chosen Option : 1

Q.11 'जिसके बालों में चंद्रमा है' वाक्यांश के लिए एक शब्द है-

- Ans
- 1. चंद्रशेखर
 - 2. चक्रपाणि
 - 3. चंद्रग्रहण
 - 4. चंद्रचूड़

Question ID : 26433069942

Status : Answered

Chosen Option : 1

Q.12 वह पौधों को खींचती है।

उपरोक्त वाक्य में रेखांकित शब्द के स्थान पर उचित शब्द क्या होगा?

- Ans
- 1. सींचती
 - 2. सुखाती
 - 3. भीजती
 - 4. रचती

Question ID : 26433062785

Status : Answered

Chosen Option : 1

Q.13 निम्नलिखित वाक्य में रेखांकित शब्द का पर्यायवाची शब्द क्या होगा?

'विनीत' होना सभी के बस की बात नहीं है।

- Ans
- 1. संजीविनी
 - 2. लड़का
 - 3. विनती
 - 4. सुशील

Question ID : 26433091338

Status : Answered

Chosen Option : 4

Q.14 निम्नलिखित विकल्पों में से 'जो बात पहले कभी न हुई हो' वाक्यांश के लिए एक सार्थक शब्द कौन सा है?

- Ans
- 1. अभूतपूर्व
 - 2. निष्क्रिय
 - 3. सक्रिय
 - 4. भूतपूर्व

Question ID : 26433062540

Status : Answered

Chosen Option : 1

Q.15 किस विकल्प में पौनःपुन्यबोधक क्रियाविशेषण के उदाहरण गलत हैं?

- Ans
- 1. प्रतिदिन, घड़ी – घड़ी, बार – बार
 - 2. निकट, उस तरफ, परसों
 - 3. बार – बार, बहुधा, अक्सर
 - 4. पुनः, फिर, हरबार

Question ID : 26433063052

Status : Not Answered

Chosen Option : --

Comprehension:

निम्नलिखित गद्यांश में कुछ शब्दों को हटा दिया गया है। दिए गए विकल्पों की सहायता से रिक्त स्थानों की पूर्ति कीजिए। प्रत्येक संख्या के लिए सबसे उपयुक्त विकल्प का चयन कीजिए।

मनुष्य के जन्म के साथ विभिन्न समस्याएँ भी 1. _____ होती है। प्रारंभ में समस्याएँ 2. _____ होती हैं बाद में वे सामाजिक समस्या के रूप में विकसित हो जाती हैं। मानव कभी भी अपने आप में 3. _____ नहीं होता। किसी न किसी प्रकार का 4. _____ प्रत्येक के जीवन में होता है। कुछ ऐसी 5. _____ होती हैं जो पूर्ण न होने पर समस्या बन जाती हैं।

SubQuestion No : 16

Q.16 रिक्त स्थान 1 की पूर्ति के लिए सबसे उपयुक्त विकल्प का चयन कीजिए।

- Ans
- 1. अंत
 - 2. सिमट
 - 3. अप्रत्यक्ष
 - 4. उत्पन्न

Question ID : 264330111065

Status : Answered

Chosen Option : 4

Comprehension:

निम्नलिखित गद्यांश में कुछ शब्दों को हटा दिया गया है। दिए गए विकल्पों की सहायता से रिक्त स्थानों की पूर्ति कीजिए। प्रत्येक संख्या के लिए सबसे उपयुक्त विकल्प का चयन कीजिए।

मनुष्य के जन्म के साथ विभिन्न समस्याएँ भी 1. _____ होती है। प्रारंभ में समस्याएँ 2. _____ होती हैं बाद में वे सामाजिक समस्या के रूप में विकसित हो जाती हैं। मानव कभी भी अपने आप में 3. _____ नहीं होता। किसी न किसी प्रकार का 4. _____ प्रत्येक के जीवन में होता है। कुछ ऐसी 5. _____ होती हैं जो पूर्ण न होने पर समस्या बन जाती हैं।

SubQuestion No : 17

Q.17 रिक्त स्थान 2 की पूर्ति के लिए सबसे उपयुक्त विकल्प का चयन कीजिए।

- Ans
- 1. व्यक्तिगत
 - 2. सबकी
 - 3. अनगिनत
 - 4. एक

Question ID : 264330111066

Status : Answered

Chosen Option : 1

Comprehension:

निम्नलिखित गद्यांश में कुछ शब्दों को हटा दिया गया है। दिए गए विकल्पों की सहायता से रिक्त स्थानों की पूर्ति कीजिए। प्रत्येक संख्या के लिए सबसे उपयुक्त विकल्प का चयन कीजिए।
मनुष्य के जन्म के साथ विभिन्न समस्याएँ भी 1. _____ होती है। प्रारंभ में समस्याएँ 2. _____ होती हैं बाद में वे सामाजिक समस्या के रूप में विकसित हो जाती हैं। मानव कभी भी अपने आप में 3. _____ नहीं होता। किसी न किसी प्रकार का 4. _____ प्रत्येक के जीवन में होता है। कुछ ऐसी 5. _____ होती हैं जो पूर्ण न होने पर समस्या बन जाती हैं।

SubQuestion No : 18

Q.18 रिक्त स्थान 3 की पूर्ति के लिए सबसे उपयुक्त विकल्प का चयन कीजिए।

- Ans 1. पूर्ण
 2. अधूरा
 3. इतना
 4. बढ़ता

Question ID : 264330111067

Status : Answered

Chosen Option : 1

Comprehension:

निम्नलिखित गद्यांश में कुछ शब्दों को हटा दिया गया है। दिए गए विकल्पों की सहायता से रिक्त स्थानों की पूर्ति कीजिए। प्रत्येक संख्या के लिए सबसे उपयुक्त विकल्प का चयन कीजिए।
मनुष्य के जन्म के साथ विभिन्न समस्याएँ भी 1. _____ होती है। प्रारंभ में समस्याएँ 2. _____ होती हैं बाद में वे सामाजिक समस्या के रूप में विकसित हो जाती हैं। मानव कभी भी अपने आप में 3. _____ नहीं होता। किसी न किसी प्रकार का 4. _____ प्रत्येक के जीवन में होता है। कुछ ऐसी 5. _____ होती हैं जो पूर्ण न होने पर समस्या बन जाती हैं।

SubQuestion No : 19

Q.19 रिक्त स्थान 4 की पूर्ति के लिए सबसे उपयुक्त विकल्प का चयन कीजिए।

- Ans 1. परिणाम
 2. प्रयास
 3. अभाव
 4. समय

Question ID : 264330111068

Status : Answered

Chosen Option : 3

Comprehension:

निम्नलिखित गद्यांश में कुछ शब्दों को हटा दिया गया है। दिए गए विकल्पों की सहायता से रिक्त स्थानों की पूर्ति कीजिए। प्रत्येक संख्या के लिए सबसे उपयुक्त विकल्प का चयन कीजिए।
मनुष्य के जन्म के साथ विभिन्न समस्याएँ भी 1. _____ होती है। प्रारंभ में समस्याएँ 2. _____ होती हैं बाद में वे सामाजिक समस्या के रूप में विकसित हो जाती हैं। मानव कभी भी अपने आप में 3. _____ नहीं होता। किसी न किसी प्रकार का 4. _____ प्रत्येक के जीवन में होता है। कुछ ऐसी 5. _____ होती हैं जो पूर्ण न होने पर समस्या बन जाती हैं।

SubQuestion No : 20

Q.20 रिक्त स्थान 5 की पूर्ति के लिए सबसे उपयुक्त विकल्प का चयन कीजिए।

- Ans
- 1. निर्धनता
 - 2. भिन्नता
 - 3. सुरक्षा
 - 4. इच्छाएँ

Question ID : 264330111069

Status : Answered

Chosen Option : 4

KD Job Updates

Constable GD in CAPFs SSF Rifleman GD in Assam Rifles and Sepoy in NCB Examination 2022

Roll Number	KD Job Updates
Candidate Name	KD Job Updates
Venue Name	Aurobindo International School Jaipur
Exam Date	27/01/2023
Exam Time	2:30 PM - 3:30 PM
Subject	Constable GD Examination 2022

Section : Part-A-General Intelligence and Reasoning

Q.1 उस विकल्प का चयन कीजिए जो तीसरे शब्द से उसी प्रकार संबंधित है जिस प्रकार दूसरा शब्द पहले शब्द से संबंधित है। (शब्दों को अर्थपूर्ण शब्दों के रूप में मानना है और उन्हें शब्द में अक्षरों/व्यंजनों/स्वरों की संख्या के आधार पर एक-दूसरे से संबंधित नहीं करना है।)
वार्षिक : अर्धवार्षिक :: मासिक : ?

- Ans
- 1. सालाना
 - 2. दैनिक
 - 3. पाक्षिक
 - 4. साप्ताहिक

Question ID : 26433067972
Status : Answered
Chosen Option : 3

Q.2 दी गई आकृति के सही दर्पण प्रतिबिंब का चयन करें जब दर्पण नीचे दर्शाए गए अनुसार MN पर रखा जाता है।

J79CM565y

M
|
N

- Ans
- 1. y2θ2MC97L
 - 2. y2θ2MC97L
 - 3. y2θ2MC97L
 - 4. y2θ2MC97L

Question ID : 26433089456
Status : Answered
Chosen Option : 4

Q.3 यदि '-' का अर्थ 'भाग', '+' का अर्थ 'गुणा', 'x' का अर्थ 'जोड़' और '÷' का अर्थ 'घटाव' है, तो निम्नलिखित में से कौन सा समीकरण सही है?

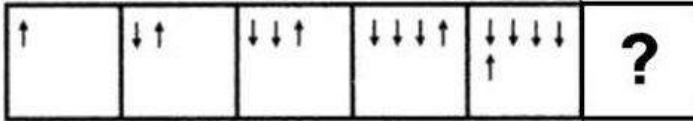
- Ans
- 1. $20 \div 9 \times 9 - 4 + 6 = 33$
 - 2. $20 + 6 - 4 \times 9 + 6 = 32$
 - 3. $10 + 3 - 2 \times 9 + 2 = 21$
 - 4. $10 - 2 + 3 \div 9 \times 2 = 8$

Question ID : 26433085659

Status : Not Answered

Chosen Option : --

Q.4 दिए गए विकल्पों में से उस आकृति का चयन करें जो निम्नलिखित श्रृंखला में प्रश्नवाचक चिह्न (?) का स्थान ले सकती है।



Ans

- 1.
- 2.
- 3.
- 4.

Question ID : 26433080490

Status : Answered

Chosen Option : 2

Q.5 नीचे दिए गए समीकरण को गणितीय रूप से सही बनाने के लिए किन दो चिह्नों को परस्पर बदलना चाहिए?

$$104 \div 13 + 78 - 3 \times 2 = 143$$

- Ans
- 1. ÷ और -
 - 2. ÷ और ×
 - 3. × और -
 - 4. + और ×

Question ID : 264330117534

Status : Answered

Chosen Option : 1

Q.6 निम्नलिखित में से कौन-सा अक्षर-समूह दी गई श्रृंखला में प्रश्न-चिह्न (?) के स्थान पर आएगा?
AETO, CGRM, ?, GKNI, IMLG

- Ans 1. EHPJ
 2. EIPK
 3. EJQK
 4. DIQK

Question ID : 26433076438
Status : Answered
Chosen Option : 2

Q.7 दिए गए विकल्पों में से उस संख्या का चयन कीजिए जो निम्न श्रृंखला में प्रश्न चिह्न (?) के स्थान पर आ सकती है।
53, 56, 50, ?, 47, 62

- Ans 1. 44
 2. 59
 3. 48
 4. 55

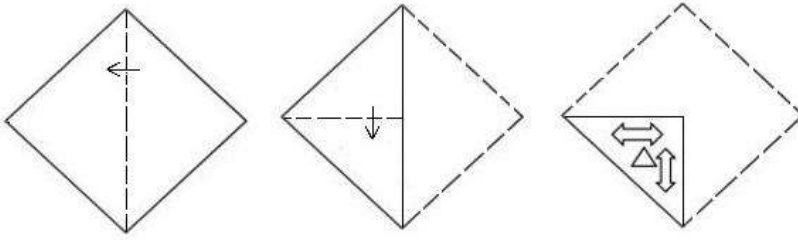
Question ID : 26433079155
Status : Answered
Chosen Option : 2

Q.8 उस विकल्प का चयन करें, जो पाँचवीं संख्या से उसी प्रकार संबंधित है, जिस प्रकार दूसरी संख्या, पहली संख्या से संबंधित है और चौथी संख्या, तीसरी संख्या से संबंधित है।
9 : 27 :: 12 : 48 :: 6 : ?

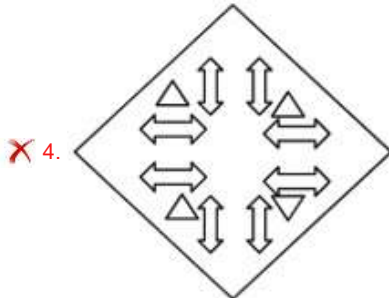
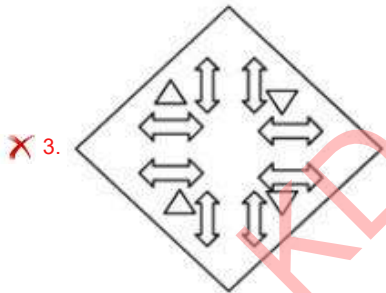
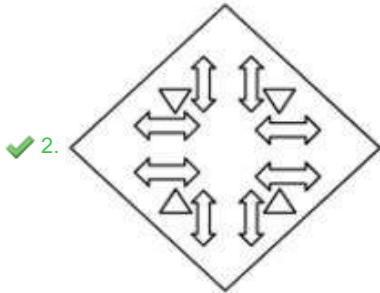
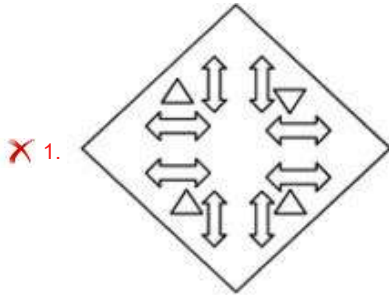
- Ans 1. 22
 2. 12
 3. 18
 4. 20

Question ID : 26433069432
Status : Answered
Chosen Option : 2

Q.9 जैसा कि नीचे दिखाया गया है, एक कागज को मोड़ा जाता है और काटा जाता है। खोलने पर यह कैसे दिखाई देगा?



Ans



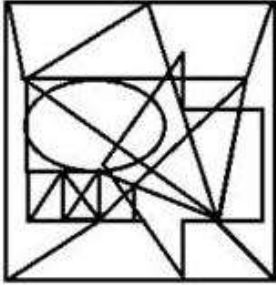
Question ID : 26433082054
 Status : Answered
 Chosen Option : 2

Q.10 उस विकल्प आकृति का चयन करें जिसमें दी गई आकृति अंतर्निहित है (घुमाने की अनुमति नहीं है)।

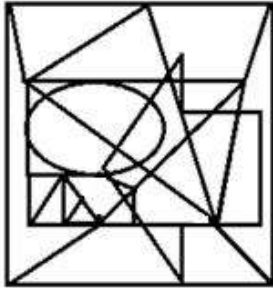


Ans

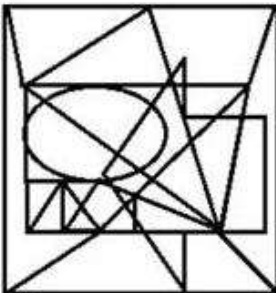
✗ 1.



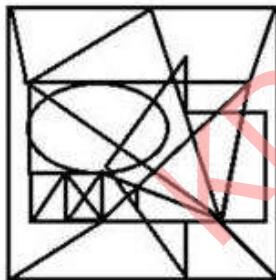
✗ 2.



✗ 3.



✓ 4.



Job Updates

Question ID : 26433069594

Status : Answered

Chosen Option : 4

Q.11 8 व्यक्ति - A, B, C, D, E, F, G और H, एक वृत्ताकार व्यवस्था में वृत्त के केंद्र की ओर मुख करके बैठे हैं। A, G के दाईं ओर ठीक बगल में, और E के बाईं ओर ठीक बगल में बैठा है। C, E के दाईं ओर दूसरे स्थान पर बैठा है। D, C के बाईं ओर ठीक बगल में बैठा है। F, G के बाईं ओर ठीक बगल में बैठा है। H, F और B के ठीक बगल में बैठा है। B के दाईं ओर ठीक बगल में कौन बैठा है?

- Ans 1. D
 2. H
 3. C
 4. A

Question ID : 26433091614
Status : Answered
Chosen Option : 2

Q.12 उस विकल्प का चयन करें, जो पांचवे अक्षर-समूह से उसी प्रकार संबंधित है, जिस प्रकार दूसरा अक्षर-समूह पहले अक्षर-समूह से संबंधित है, और चौथा अक्षर-समूह तीसरे अक्षर-समूह से संबंधित है।
AFHO : CHIP :: QDXM : SFYN :: ADGH : ?

- Ans 1. BGIP
 2. CHIF
 3. CFJR
 4. CFHI

Question ID : 26433080461
Status : Answered
Chosen Option : 4

Q.13 कौन-सा अक्षर-समूह दी गई श्रृंखला में प्रश्नचिह्न (?) के स्थान पर आकर श्रृंखला को पूर्ण करेगा?
AEHJ, DHKM, ?, JNQS, MQTV

- Ans 1. GKNP
 2. GIKM
 3. FJMO
 4. GJLM

Question ID : 26433068439
Status : Answered
Chosen Option : 1

Q.14 तीन कथन दिए गए हैं, जिनके बाद तीन निष्कर्ष I, II और III दिए गए हैं। कथनों को सत्य मानते हुए, भले ही वे सामान्य रूप से ज्ञात तथ्यों से भिन्न प्रतीत होते हों, निर्धारित करें कि कौन-सा/से निष्कर्ष कथनों का तार्किक रूप से अनुसरण करता है/करते हैं।

कथन:

सभी फूल पत्तियां हैं।

सभी पत्तियां तने हैं।

कुछ तने जड़ हैं।

निष्कर्ष:

I. कुछ तने पत्तियां हैं।

II. कुछ फूल जड़ हैं।

III. कुछ पत्तियां फूल हैं।

Ans 1. केवल निष्कर्ष I और III अनुसरण करते हैं

2. सभी निष्कर्ष अनुसरण करते हैं

3. केवल निष्कर्ष II अनुसरण करता है

4. केवल निष्कर्ष II और III अनुसरण करते हैं

Question ID : 26433090992

Status : Answered

Chosen Option : 1

Q.15 L, O का पति है। Q, O की सास है। P, L की बहन है। P का विवाह R से हुआ है। R का एक बेटा T है। Q, T से किस प्रकार संबंधित है?

Ans 1. माँ

2. दादी

3. नानी

4. बहन

Question ID : 26433074599

Status : Answered

Chosen Option : 3

Q.16 सात व्यक्ति एक सिनेमाघर में उत्तर की ओर मुख करके बैठे एक फिल्म देख रहे हैं। D, A के दाईं ओर, और G के बाईं ओर बैठा है। Y, C के दाईं ओर, और A के बाईं ओर बैठा है। Z, F के बाईं ओर बैठा है, और दाएं सिरे से दूसरे स्थान पर है। बाएं सिरे से दूसरे स्थान पर कौन बैठा है?

Ans 1. C

2. A

3. Y

4. Z

Question ID : 26433079058

Status : Answered

Chosen Option : 3

Q.17 एक निश्चित कूट भाषा में, 'OXFORD' को 'OODFRX' के रूप में लिखा जाता है और 'KILLING' को 'IIGKLLN' के रूप में लिखा जाता है। उसी भाषा में 'SOLUTION' को किस प्रकार लिखा जाएगा?

- Ans
- ✓ 1. IOOULNST
 - ✗ 2. IOOUSTLN
 - ✗ 3. LNSTIOOU
 - ✗ 4. UOOITSNL

Question ID : 26433069650
Status : Answered
Chosen Option : 1

Q.18 किस विकल्प में निम्नलिखित शब्दों का वह क्रम दिया गया है, जिस क्रम में वे अंग्रेजी शब्दकोश में आते हैं?

- 1 Marching
- 2 Marble
- 3 Matching
- 4 Maker
- 5 Major

- Ans
- ✗ 1. 5,4,3,2,1
 - ✗ 2. 5,2,3,1,4
 - ✗ 3. 5,3,2,1,4
 - ✓ 4. 5,4,2,1,3

Question ID : 26433069313
Status : Answered
Chosen Option : 4

Q.19 दिए गए विकल्पों में से वह संख्या चुनिए, जो निम्नलिखित शृंखला में प्रश्न-चिह्न (?) को प्रतिस्थापित कर सके।

$$\frac{1}{402}, \frac{1}{335}, ?, \frac{1}{201}, \frac{1}{134}$$

- Ans
- ✓ 1. $\frac{1}{268}$
 - ✗ 2. $\frac{1}{282}$
 - ✗ 3. $\frac{1}{289}$
 - ✗ 4. $\frac{1}{259}$

Question ID : 26433074532
Status : Answered
Chosen Option : 1

Q.20 एक कूट भाषा में 'dark colors' को 'yu nu', 'days are bright' को 'wu tu ku', 'nights are dark' को 'ku nu pu', 'paint bright' को 'wu ru' के रूप में कूटबद्ध किया जाता है। शब्द 'colors' के लिए कूट क्या होगा?

- Ans
- 1. tu
 - 2. ku
 - 3. yu
 - 4. nu

Question ID : 26433082272
Status : Answered
Chosen Option : 3

Section : Part-B-General Knowledge and General awareness

Q.1 घोड़े मोड़नी नृत्य कहां का एक लोक नृत्य है?

- Ans
- 1. हरियाणा
 - 2. गुजरात
 - 3. गोवा
 - 4. बिहार

Question ID : 26433071687
Status : Marked For Review
Chosen Option : 2

Q.2 _____ एक ऐसा जमा खाता होता है, जिसे ऐसे लोगों द्वारा खोला जाता है, जो अपनी आय का एक निश्चित हिस्सा बचाना चाहते हैं।

- Ans
- 1. शेयर
 - 2. बचत खाता
 - 3. ऋणपत्र
 - 4. ऋण

Question ID : 264330115321
Status : Answered
Chosen Option : 2

Q.3 कटि बिहू, असम के तीन बिहू त्यौहारों में से एक है, यह _____ के महीने में मनाया जाता है।

- Ans
- 1. दिसंबर
 - 2. अक्टूबर
 - 3. जनवरी
 - 4. अप्रैल

Question ID : 264330115120
Status : Answered
Chosen Option : 2

Q.4 _____ की स्थापना 1963 में बीज उत्पादन के क्षेत्र में जिम्मेदारी के लिए विशेष रूप से एचवाईवी (HYV) बीजों के मूल भंडार के लिए की गई थी।

- Ans
- 1. नया सहकारी विकास
 - 2. राष्ट्रीय बीज निगम
 - 3. राष्ट्रीय कृषि निगम
 - 4. कृषि बीज निगम

Question ID : 26433054798
Status : Answered
Chosen Option : 2

Q.5 श्रीलंका भारत से _____ द्वारा अलग होता है।

- Ans
- 1. करा स्थलसंधि
 - 2. पनामा स्थलसंधि
 - 3. पाक जलसंधि
 - 4. जिब्राल्टर जलसंधि

Question ID : 264330115568
Status : Answered
Chosen Option : 3

Q.6 मैच में फुटबॉल पिच की लंबाई _____ और 120 m के बीच होनी चाहिए।

- Ans
- 1. 105 m
 - 2. 90 m
 - 3. 100 m
 - 4. 110 m

Question ID : 26433071570
Status : Answered
Chosen Option : 4

Q.7 निम्नलिखित में से किस पूर्व मुख्य आर्थिक सलाहकार को नवंबर 2022 में नेशनल इंस्टीट्यूट फॉर ट्रांसफॉर्मिंग इंडिया (नीति) आयोग के पूर्णकालिक सदस्य के रूप में नियुक्त किया गया है?

- Ans
- 1. राजेश शर्मा
 - 2. श्रीधरन कृष्णकुमारी सतीश
 - 3. विजय कुमार सारस्वत
 - 4. अरविंद विरमानी

Question ID : 264330115024
Status : Marked For Review
Chosen Option : 4

Q.8 मोहम्मद अली जिन्ना, मदन मोहन मालवीय और मजहर उल हक ने शाही विधान परिषद (Imperial Legislative Council) से त्यागपत्र क्यों दिया?

- Ans
- 1. रोलेट एक्ट के खिलाफ विरोध करने के लिए
 - 2. साइमन कमीशन का समर्थन करने के लिए
 - 3. साइमन कमीशन के खिलाफ विरोध करने के लिए
 - 4. रोलेट एक्ट का समर्थन करने के लिए

Question ID : 264330115702
Status : Marked For Review
Chosen Option : 3

Q.9 लेड नाइट्रेट को गर्म करने पर कौन-सी दो गैसें मिलती हैं?

- Ans
- 1. कार्बन मोनोक्साइड और ऑक्सीजन
 - 2. नाइट्रोजन डाइऑक्साइड और ऑक्सीजन
 - 3. ऑक्सीजन और नाइट्रोजन ऑक्साइड
 - 4. हाइड्रोजन और नाइट्रोजन डाइऑक्साइड

Question ID : 26433087849
Status : Answered
Chosen Option : 4

Q.10 निम्नलिखित में से कौन वज्जि महाजनपद की राजधानी थी?

- Ans
- 1. गया
 - 2. वैशाली
 - 3. पाटलिपुत्र
 - 4. अंग

Question ID : 264330115462
Status : Marked For Review
Chosen Option : 2

Q.11 उपभोक्ता संरक्षण अधिनियम 2019 के अंतर्गत राज्य सरकार, अधिसूचना द्वारा, राज्य के प्रत्येक जिले में एक _____ स्थापित करेगी।

- Ans
- 1. स्ट्रीट उपभोक्ता विवाद निवारण आयोग
 - 2. राष्ट्रीय उपभोक्ता विवाद निवारण आयोग
 - 3. स्थानीय उपभोक्ता विवाद निवारण आयोग
 - 4. जिला उपभोक्ता विवाद निवारण आयोग

Question ID : 264330116235
Status : Answered
Chosen Option : 4

Q.12 जिन खाद्य पदार्थों में स्टार्च होता है, वे _____ के संपर्क में आने पर नीले-काले रंग के हो जाते हैं।

- Ans
- 1. लवण
 - 2. लाल लिटमस
 - 3. आयोडीन
 - 4. नीले लिटमस

Question ID : 264330115201
Status : Marked For Review
Chosen Option : 2

Q.13 कृषि क्षेत्र द्वारा किस प्रकार की बेरोजगारी उत्पन्न होगी, यदि वह वर्ष के कुछ समय के लिए ही अतिरिक्त मजदूरों को नियुक्त करता है जैसे कि फसल कटाई का मौसम?

- Ans
- 1. चक्रीय बेरोजगारी
 - 2. प्रच्छन्न बेरोजगारी
 - 3. मौसमी बेरोजगारी
 - 4. संरचनात्मक बेरोजगारी

Question ID : 264330116087
Status : Answered
Chosen Option : 1

Q.14 वे ज्वालामुखी, जो बहुत लंबे समय से उद्गारित नहीं हुए हैं लेकिन भविष्य में उद्गारित हो सकते हैं, उन्हें क्या कहा जाता है?

- Ans
- 1. विलुप्त ज्वालामुखी
 - 2. सक्रिय ज्वालामुखी
 - 3. प्रसुप्त ज्वालामुखी
 - 4. ढाल ज्वालामुखी

Question ID : 264330116004
Status : Answered
Chosen Option : 3

Q.15 माउंटेन टेरेन बाइकिंग और साइकिल मोटोकॉस के लिए भारत का पहला SAI सेंटर ऑफ एक्सीलेंस _____ में स्थापित किया जाना है।

- Ans
- 1. नैनीताल
 - 2. शिमला
 - 3. श्रीनगर
 - 4. लद्दाख

Question ID : 26433089931
Status : Marked For Review
Chosen Option : 4

Q.16 माल का निर्यात _____ को बढ़ाता है।

- Ans
- 1. व्यय
 - 2. स्थानीय ऋण
 - 3. राष्ट्रीय ऋण
 - 4. विदेशी मुद्रा

Question ID : 264330115408
Status : Answered
Chosen Option : 4

Q.17 1976 में स्थापित _____ की अनुशंसा के अनुसार 42वां संविधान संशोधन किया गया था।

- Ans
- 1. अभिजीत सेन समिति
 - 2. आबिद हुसैन समिति
 - 3. अजीत कुमार समिति
 - 4. स्वर्ण सिंह समिति

Question ID : 26433089909
Status : Marked For Review
Chosen Option : 4

Q.18 विधान परिषद के सदस्य _____ वर्ष की अवधि के लिए चुने जाते हैं।

- Ans
- 1. 6
 - 2. 4
 - 3. 7
 - 4. 5

Question ID : 26433086676
Status : Answered
Chosen Option : 1

Q.19 नवंबर 2022 में भारत के ओडिशा में धामनगर निर्वाचन क्षेत्र से विधान सभा के सदस्य कौन बने?

- Ans
- 1. विष्णु सेठी
 - 2. सूर्यवंशी सूरज
 - 3. चन्द्रकांत जाधव
 - 4. नवीन पटनायक

Question ID : 264330114944
Status : Marked For Review
Chosen Option : 4

Q.20 संगीत नाटक अकादमी पुरस्कार (अकादमी पुरस्कार) में _____ शामिल होते है।

- Ans 1. एक ताम्रपत्र और अंगवस्त्रम के साथ 1,00,000/- (एक लाख रुपये)
2. 3,00,000/- रुपए (एक लाख रुपये)
3. 50,000/- रुपए (पचास हजार रुपये)
4. एक ताम्रपत्र और अंगवस्त्रम के साथ Rs 50,000/- (पचास हजार रुपये)

Question ID : 264330115889

Status : Answered

Chosen Option : 1

Section : Part-C-Elementary Mathematics

Q.1 तीन पुरुष और दो महिलाएं एक कार्य को $\frac{120}{13}$ दिनों में पूरा कर सकती हैं। दो पुरुष और तीन महिलाएं उसी कार्य को 10 दिनों में पूरा कर सकती हैं। एक पुरुष और एक महिला कार्य आरंभ करते हैं और 12 दिनों के बाद, 1 और पुरुष कार्य में शामिल हो जाता है। तीन और दिनों के बाद, कार्य को अगले ही दिन पूरा करने के लिए अधिक पुरुषों या महिलाओं को शामिल करने का निर्देश दिया जाता है। निर्देश के अनुसार कार्य को पूरा करने के लिए न्यूनतम कितने और पुरुषों या महिलाओं को लगाया जाना चाहिए?

- Ans 1. 5 पुरुष और 10 महिलाएं
2. या तो 14 महिलाएं या 10 पुरुष
3. या तो 15 महिलाएं या 9 पुरुष
4. 7 पुरुष और 7 महिलाएं

Question ID : 26433085470

Status : Not Answered

Chosen Option : --

Q.2 एक वस्तु की कीमत 2020 से 2021 तक 10% बढ़ जाती है और यह फिर से 2021 से 2022 तक 15% बढ़ जाती है। 2020 और 2022 में कीमतों में अंतर ₹35 है। 2021 में वस्तु की कीमत (₹ में) (एक दशमलव स्थान तक पूर्णांकित) क्या है?

- Ans 1. 134.5
2. 154.3
3. 145.3
4. 314.5

Question ID : 26433085433

Status : Answered

Chosen Option : 3

Q.3 एक बेईमान डीलर अपने माल को क्रय मूल्य पर बेचने का दावा करता है लेकिन 1 किलो के बजाय 950 ग्राम के गलत वजन का उपयोग करता है। उसका लाभ प्रतिशत क्या है?

Ans

- 1. $5\frac{1}{19}\%$
- 2. 5%
- 3. $5\frac{3}{19}\%$
- 4. $5\frac{5}{19}\%$

Question ID : 26433075467

Status : Answered

Chosen Option : 4

Q.4 9 cm त्रिज्या वाले एक गोलाकार खरबूजे को दो बराबर गोलार्द्धों में काटा जाता है। प्रत्येक गोलार्द्ध का

आयतन (cm^3 में, दशमलव के बाद दो स्थानों तक पूर्णांकित) ज्ञात करें। $\pi = \frac{22}{7}$ लें

Ans

- 1. $1,372.35 \text{ cm}^3$
- 2. $1,527.43 \text{ cm}^3$
- 3. $1,472.53 \text{ cm}^3$
- 4. $1,547.34 \text{ cm}^3$

Question ID : 26433076249

Status : Answered

Chosen Option : 2

Q.5 एक वस्तु पर Rs.7500 मूल्य अंकित है और यह 12% की छूट पर उपलब्ध है। दुकानदार, खरीदार को एक और ऑफ-सीजन छूट देता है और वस्तु को Rs.5,400 में बेचता है। ऑफ-सीजन छूट ज्ञात कीजिए। (दशमलव के दो स्थानों तक सही।)

Ans

- 1. 18.18%
- 2. 19.53%
- 3. 18.95%
- 4. 19.63%

Question ID : 26433075529

Status : Answered

Chosen Option : 1

Q.6 एक महिला घर से कार्यालय तक 40 km/h की चाल से जाती है, और 70 km/h की चाल से वापस लौटती है। यात्रा के दौरान उसकी औसत चाल क्या है?

Ans

✗ 1. $45\frac{1}{11}$ km/h

✓ 2. $50\frac{10}{11}$ km/h

✗ 3. $55\frac{7}{11}$ km/h

✗ 4. $40\frac{8}{11}$ km/h

Question ID : 26433079847

Status : Answered

Chosen Option : 2

Q.7 रजनीश ने एक बैंक में Rs.3,00,000 तीन वर्षों के लिए जमा किए। यदि ब्याज की दर वार्षिक रूप से चक्रवृद्धि होने वाली 8% वार्षिक हो, तो अंतिम राशि क्या होगी?

Ans

✗ 1. Rs.3,50,000.00

✗ 2. Rs.3,57,931.60

✓ 3. Rs.3,77,913.60

✗ 4. Rs.3,70,000.00

Question ID : 26433080334

Status : Answered

Chosen Option : 3

Q.8 एक व्यक्ति धारा के विपरीत दिशा में 12 km/h और धारा के दिशा में 20 km/h की चाल से नाव चला सकता है। स्थिर जल में व्यक्ति की नौकायन चाल और धारा की चाल ज्ञात कीजिए।

Ans

✗ 1. 32 km/h और 4 km/h

✗ 2. 32 km/h और 8 km/h

✓ 3. 16 km/h और 4 km/h

✗ 4. 16 km/h और 8 km/h

Question ID : 26433076203

Status : Answered

Chosen Option : 3

Q.9 एक ठोस लम्ब वृत्तीय बेलन के पदार्थ को उसी त्रिज्या वाले एक ठोस शंकु के आकार में परिवर्तित किया जाता है। यदि बेलन की ऊंचाई 8.8 cm है, तो शंकु की ऊंचाई ज्ञात कीजिए।

Ans

✗ 1. 17.6 cm

✗ 2. 35.2 cm

✓ 3. 26.4 cm

✗ 4. 8.8 cm

Question ID : 26433087412

Status : Answered

Chosen Option : 3

Q.10 यदि संख्या 40 में 40% की वृद्धि की जाती है, तो वास्तविक वृद्धि क्या होगी?

- Ans
- 1. 28
 - 2. 56
 - 3. 16
 - 4. 42

Question ID : 26433075907
Status : Answered
Chosen Option : 2

Q.11 16 और 320 का तृतीयानुपाती ज्ञात कीजिए।

- Ans
- 1. 6400
 - 2. 2100
 - 3. 8000
 - 4. 3200

Question ID : 26433076187
Status : Answered
Chosen Option : 1

Q.12 एक इलेक्ट्रिक गीजर को अंकित मूल्य पर 15% और 4% की क्रमिक छूट के अतिरिक्त Rs.244 कम करने के बाद Rs.7,100 पर बेचा जाता है। गीजर का अंकित मूल्य (Rs. में) ज्ञात कीजिए।

- Ans
- 1. 8,200
 - 2. 8,500
 - 3. 9,000
 - 4. 8,800

Question ID : 26433075912
Status : Answered
Chosen Option : 4

Q.13 विपरीत दिशाओं में चल रही दो ट्रेनें प्लेटफॉर्म पर खड़े एक व्यक्ति को क्रमशः 30 सेकंड और 15 सेकंड में पार करती हैं और वे एक दूसरे को 25 सेकंड में पार करती हैं। उनकी चाल का अनुपात ज्ञात कीजिए।

- Ans
- 1. 2 : 1
 - 2. 3 : 2
 - 3. 3 : 7
 - 4. 5 : 3

Question ID : 26433080048
Status : Answered
Chosen Option : 1

Q.14 यदि $a = 2$ और $b = 3$ है, तो $a^3 + b^3$ और $a^2 + ab + b^2$ का तृतीय अनुपातिक ज्ञात करें। (दशमलव के बाद दो स्थानों तक गणना करें)

Ans 1. 10.31

2. 8.56

3. 5.83

4. 10

Question ID : 26433081578

Status : Answered

Chosen Option : 1

Q.15 2011 से 2014 तक, एक नगर की जनसंख्या 2% की वार्षिक दर से बढ़ रही थी। यदि 2014 में इसकी जनसंख्या 13,265 थी, तो 2011 में इसकी जनसंख्या (लगभग) कितनी रही होगी?

Ans 1. 12500

2. 12275

3. 12000

4. 12250

Question ID : 26433091563

Status : Answered

Chosen Option : 3

Q.16 एक डिस्काउंट स्कीम में, Rs.500 के अंकित मूल्य पर 50% की छूट है, लेकिन अंत में इसे Rs.200 का बेचा गया। ग्राहक को कितनी अतिरिक्त छूट मिली?

Ans 1. 25%

2. 20%

3. 22%

4. 30%

Question ID : 26433083044

Status : Answered

Chosen Option : 2

Q.17 एक निश्चित नगर का विभिन्न दिनों में औसत तापमान इस प्रकार है:

सोमवार, मंगलवार, बुधवार और गुरुवार = 42°

मंगलवार, बुधवार, गुरुवार और शुक्रवार = 44°

यदि सोमवार और शुक्रवार के तापमान का अनुपात 3 : 5 है तो शुक्रवार का तापमान कितना होगा?

Ans 1. 44°

2. 15°

3. 42°

4. 20°

Question ID : 26433091895

Status : Marked For Review

Chosen Option : 3

Q.18 315 पुरुषों के लिए 48 दिन का भोजन का भंडार पर्याप्त है। यदि 45 और पुरुष शामिल हो जाते हैं तो वही भोजन का भंडार कितने दिनों के लिए पर्याप्त होगा?

- Ans
- 1. 48
 - 2. 46
 - 3. 42
 - 4. 44

Question ID : 26433079897
Status : Marked For Review
Chosen Option : 2

Q.19 18 और 24 दोनों से विभाज्य सबसे छोटी संख्या के अंकों के योग का वर्ग ज्ञात करें।

- Ans
- 1. 81
 - 2. 100
 - 3. 121
 - 4. 64

Question ID : 264330116661
Status : Marked For Review
Chosen Option : 4

Q.20 $\frac{\frac{1}{6} \div \frac{1}{6} \times \frac{1}{6}}{\frac{1}{6} \div \frac{1}{6} \text{ of } \frac{1}{6}} - \frac{1}{36}$ का मान ज्ञात कीजिए।

- Ans
- 1. $\frac{1}{36}$
 - 2. 0
 - 3. 1
 - 4. $\frac{1}{6}$

Question ID : 26433074975
Status : Marked For Review
Chosen Option : 4

Section : Part-D-English

Q.1 Select the most appropriate option that can substitute the underlined segment in the given sentence.

He very pleased that you have passed with distinction.

- Ans
- 1. He will very please
 - 2. He has very pleased
 - 3. He is very pleased
 - 4. He is very please

Question ID : 264330101411
Status : Not Answered
Chosen Option : --

Q.2 Select the most appropriate set of words to complete the sentence.

I will not spend a single _____ on a bottle of perfume until I know that I love its _____.

- Ans
- 1. scent; cent
 - 2. cent; scent
 - 3. scent; sent
 - 4. sent; cent

Question ID : 26433088874
Status : Not Answered
Chosen Option : --

Q.3 Select the most appropriate option that can substitute the underlined segment in the given sentence.

The road which connected for two villages is now deserted.

- Ans
- 1. will connect the
 - 2. that connected the
 - 3. that connected for
 - 4. which connects of

Question ID : 26433088990
Status : Not Answered
Chosen Option : --

Q.4 Select the sentence that contains the MISSPELT word from the given options.

- Ans
- 1. As if to fill the small hours of that cold night with warm thoughts, I picked up the book and started browsing.
 - 2. Both of them were best friends, now they are at daggers drawn.
 - 3. The gist of the quote was that all reasonable men adadopt themselves to the world.
 - 4. Without the slightest warning, something new breaks into your life that you may be completely unconscious of.

Question ID : 26433073882
Status : Not Answered
Chosen Option : --

Q.5 Select the most appropriate synonym of the underlined word.

He was curious to know his result.

- Ans
- 1. Indifferent
 - 2. Indiscriminate
 - 3. Ingenious
 - 4. Inquisitive

Question ID : 26433084683
Status : Not Answered
Chosen Option : --

Q.6 Select the most appropriate option to fill in the blank with the synonym of the underlined word.

The casual nature of the student destroyed his studies and _____ his future.

- Ans
- 1. traced
 - 2. skyrocketed
 - 3. ruined
 - 4. rained

Question ID : 26433094736
Status : Not Answered
Chosen Option : --

Q.7 Select the most appropriate ANTONYM of the given word.

Cluster

- Ans
- 1. Individual
 - 2. Group
 - 3. Consort
 - 4. Special

Question ID : 26433084748
Status : Not Answered
Chosen Option : --

Q.8 Select the correct idiom that can substitute the italicised group of words in the given sentence.

Will humanity overcome the greed of leaders all around the world? This is the *most important issue to be discussed today*.

- Ans
- 1. burning question
 - 2. burn a hole in the pocket
 - 3. burn the candle at both ends
 - 4. burn one's fingers

Question ID : 26433084758
Status : Not Answered
Chosen Option : --

Q.9 Select the most appropriate meaning of the given idiom.

The pot calling the kettle black

- Ans
- 1. People are guilty of the very fault they identify in others
 - 2. Speaking strangely in an official meeting
 - 3. Preparing the tea without boiling water
 - 4. Making things ready quickly

Question ID : 26433073488
Status : Not Answered
Chosen Option : --

Q.10 Select the most appropriate homonym to fill in the blank.
The construction _____ was far from his home.

- Ans
- 1. cite
 - 2. site
 - 3. sight
 - 4. cyte

Question ID : 26433060048
Status : Not Answered
Chosen Option : --

Q.11 Select the word segment that substitutes (replaces) the bracketed word segment correctly and completes the sentence meaningfully.

Wear rubber gloves while chopping chillies (as it could irritate the skin).

- Ans
- 1. as these would irritate the skin
 - 2. as these could irritate the skin
 - 3. as they can irritate the skin
 - 4. as it would irritate the skin

Question ID : 26433088959
Status : Not Answered
Chosen Option : --

Q.12 Select the most appropriate ANTONYM of the given word.

Succinct

- Ans
- 1. Lengthy
 - 2. Hasty
 - 3. Empty
 - 4. Hearty

Question ID : 26433091823
Status : Not Answered
Chosen Option : --

Q.13 Select the most appropriate spelling that can correctly substitute the misspelt underlined segment in the given sentence.

He acquiesced to the plans his parents had made for him.

- Ans
- 1. acquiised
 - 2. aquissed
 - 3. acquissed
 - 4. acquiesced

Question ID : 26433071937
Status : Not Answered
Chosen Option : --

Q.14 Select the most appropriate synonym of the given word.
Despise

- Ans** 1. Hate
 2. Revere
 3. Eradicate
 4. Elevate

Question ID : 26433084665
Status : Not Answered
Chosen Option : --

Q.15 Parts of the following sentence have been underlined and given as options. Select the option that contains an error.

We must acknowledge the fact that we had been visited Paris many times with friends.

- Ans** 1. had been
 2. acknowledge
 3. must
 4. visited

Question ID : 26433089371
Status : Not Answered
Chosen Option : --

Comprehension:

In the following passage, some words have been deleted. Read the passage carefully and select the most appropriate option to fill in each blank.

I think that perhaps the sky is a (1) _____ sea of fresh water and we, (2) _____ walking under it, walk on top of it; perhaps we see everything (3) _____ down and the earth is a (4) _____ of sky, so that when we die, we fall and (5) _____ into the sky.

SubQuestion No : 16

Q.16 Select the most appropriate option to fill in blank number 1.

- Ans** 1. allotted
 2. minty
 3. vigilant
 4. huge

Question ID : 26433089331
Status : Not Answered
Chosen Option : --

Comprehension:

In the following passage, some words have been deleted. Read the passage carefully and select the most appropriate option to fill in each blank.

I think that perhaps the sky is a (1) _____ sea of fresh water and we, (2) _____ walking under it, walk on top of it; perhaps we see everything (3) _____ down and the earth is a (4) _____ of sky, so that when we die, we fall and (5) _____ into the sky.

SubQuestion No : 17

Q.17 Select the most appropriate option to fill in blank number 2.

- Ans
- 1. primarily
 - 2. coldly
 - 3. instead of
 - 4. stubbornly

Question ID : 26433089332
Status : Not Answered
Chosen Option : --

Comprehension:

In the following passage, some words have been deleted. Read the passage carefully and select the most appropriate option to fill in each blank.

I think that perhaps the sky is a (1) _____ sea of fresh water and we, (2) _____ walking under it, walk on top of it; perhaps we see everything (3) _____ down and the earth is a (4) _____ of sky, so that when we die, we fall and (5) _____ into the sky.

SubQuestion No : 18

Q.18 Select the most appropriate option to fill in blank number 3.

- Ans
- 1. look
 - 2. glow
 - 3. upside
 - 4. blow

Question ID : 26433089333
Status : Not Answered
Chosen Option : --

Comprehension:

In the following passage, some words have been deleted. Read the passage carefully and select the most appropriate option to fill in each blank.

I think that perhaps the sky is a (1) _____ sea of fresh water and we, (2) _____ walking under it, walk on top of it; perhaps we see everything (3) _____ down and the earth is a (4) _____ of sky, so that when we die, we fall and (5) _____ into the sky.

SubQuestion No : 19

Q.19 Select the most appropriate option to fill in blank number 4.

- Ans
- 1. kind
 - 2. partition
 - 3. selection
 - 4. label

Question ID : 26433089334
Status : Not Answered
Chosen Option : --

Comprehension:

In the following passage, some words have been deleted. Read the passage carefully and select the most appropriate option to fill in each blank.

I think that perhaps the sky is a (1) _____ sea of fresh water and we, (2) _____ walking under it, walk on top of it; perhaps we see everything (3) _____ down and the earth is a (4) _____ of sky, so that when we die, we fall and (5) _____ into the sky.

SubQuestion No : 20

Q.20 Select the most appropriate option to fill in blank number 5.

- Ans
- 1. climb
 - 2. swing
 - 3. draw
 - 4. sink

Question ID : 26433089335
Status : Not Answered
Chosen Option : --

Section : Part-D-Hindi

**Q.1 'ब्रह्मा' के उपयुक्त पर्यायवाची शब्द से वाक्य पूर्ण कीजिए।
_____ की उपासना कीजिए।**

- Ans
- 1. नरेश
 - 2. भूतेश
 - 3. पुरंदर
 - 4. लोकेश

Question ID : 26433063084
Status : Marked For Review
Chosen Option : 4

**Q.2 निम्न वाक्य के रिक्त स्थान पर रेखांकित शब्द का उपयुक्त विलोम शब्द कौन-सा होगा?
घृणा को _____ से जीतो।**

- Ans
- 1. ईर्ष्या
 - 2. प्रेम
 - 3. लोभ
 - 4. गुस्से

Question ID : 26433072619
Status : Answered
Chosen Option : 2

Q.3 'छोटे कद का आदमी' इस वाक्य खंड के लिए उचित शब्द निम्न में से क्या होगा?

- Ans
- 1. बौना
 - 2. क्रीत
 - 3. यात्री
 - 4. शैव

Question ID : 26433063055
Status : Answered
Chosen Option : 1

Q.4 'अमन और कबीर 'मित्र' हैं।' विकल्पों में से कौन सा इस वाक्य में रेखांकित 'मित्र' शब्द का पर्यायवाची शब्द नहीं है?

- Ans
- 1. मीत
 - 2. रैना
 - 3. सहचर
 - 4. दोस्त

Question ID : 26433085068
Status : Answered
Chosen Option : 2

Q.5 निम्नलिखित वाक्य में रेखांकित खंड के स्थान पर प्रयुक्त होने वाले सबसे उपयुक्त विकल्प का चयन कीजिए।
उसके पाँच सौ रुपये जुर्माना हुआ।

- Ans
- 1. वह
 - 2. उसी
 - 3. उसे
 - 4. उसकी

Question ID : 26433079572
Status : Answered
Chosen Option : 3

Q.6 ' _____ का अंतर होना' सही विकल्प का चयन कर इस मुहावरे को पूरा करें।

- Ans
- 1. आमने सामने
 - 2. आकाश पाताल
 - 3. ऊपर नीचे
 - 4. दाएं बाएं

Question ID : 26433066816
Status : Answered
Chosen Option : 2

Q.7 निम्न वाक्यांश के लिए एक शब्द क्या होगा?
जिसका कोई शत्रु नहीं जनमा है

- Ans
- 1. अजातशत्रु
 - 2. अज्ञातसूत
 - 3. अज्ञातशत्रु
 - 4. अजातसूत

Question ID : 26433070088
Status : Answered
Chosen Option : 1

Q.8 वर्तनी की दृष्टि से शुद्ध वाक्य का चयन कीजिए-

- Ans 1. यद्यपि वह उनके घर गया था, तथपि उनसे भेट नहीं हुई।
 2. मुझे प्रसननता है कि तुम स्वस्थ हो गए।
 3. उसे तार मिला और वह तुरंत घर से चल पड़ा।
 4. वह बड़े-बड़े गृन्थ पढ़ता था ताकि विद्वान बन जाए।

Question ID : 26433062893
Status : Answered
Chosen Option : 1

Q.9 निम्नलिखित विकल्पों में से किस एक वाक्य में विशेषण का उचित प्रयोग किया गया है?

- Ans 1. गीता खेलती है।
 2. वह अच्छा लड़का है।
 3. वह कानपुर गया।
 4. राम पढ़ता है।

Question ID : 26433062962
Status : Answered
Chosen Option : 2

Q.10 'कोरा जवाब देना' मुहावरे का सही अर्थ है -

- Ans 1. अर्थहीन बात करना
 2. साफ इंकार करना
 3. अपमान करना
 4. चुप हो जाना

Question ID : 26433065919
Status : Answered
Chosen Option : 2

Q.11 विकल्पों में दिए गए समानार्थी शब्दों में से सर्वोचित शब्द का प्रयोग करके दिए गए वाक्य में रिक्त स्थान की पूर्ति कीजिए।

कक्षा में प्रवेश करते ही छात्रों ने शिक्षक का _____ किया।

- Ans 1. स्वागत
 2. अभिनन्दन
 3. सत्कार
 4. अभिवादन

Question ID : 26433074416
Status : Answered
Chosen Option : 4

Q.12 निम्नलिखित विकल्पों में से 'जिसे सबसे पहले गिनना उचित हो' वाक्यांश के लिए एक सार्थक शब्द क्या होगा ?

- Ans
- 1. अक्षम्य
 - 2. सुगम्य
 - 3. अग्रगण्य
 - 4. नगण्य

Question ID : 26433062532
Status : Answered
Chosen Option : 3

Q.13 निम्नलिखित विकल्पों में से किस एक वाक्य में गुणवाचक विशेषण का उचित प्रयोग नहीं किया गया है?

- Ans
- 1. रमेश का चेहरा गोल है।
 - 2. नीरज दिल्ली में रहता है।
 - 3. राम सुन्दर बालक है।
 - 4. श्याम अच्छा लड़का है।

Question ID : 26433062973
Status : Answered
Chosen Option : 2

Q.14 'रागिनी ने जब वीणा बजाना शुरू किया तो उसके स्वर से सारा वातावरण _____ हो गया।' उपरोक्त वाक्य में रिक्त स्थान की पूर्ति निम्न में से सही शब्द चुनकर कीजिए।

- Ans
- 1. झनकृत
 - 2. झनकृत
 - 3. झंकृत
 - 4. झंक्रत

Question ID : 26433069705
Status : Answered
Chosen Option : 3

Q.15 'निशाचर _____।' उपर्युक्त वाक्य में रिक्त स्थान के लिए उपयुक्त विकल्प निम्न में से क्या होगा?

- Ans
- 1. से अभिप्राय है - रात्रि में चरने वाला
 - 2. से अभिप्राय है - रात्रि में विचरण करने वाला
 - 3. से अभिप्राय है - निशा को चुराने वाला
 - 4. से अभिप्राय है - रात्रि में चोरी करने वाला

Question ID : 26433067045
Status : Answered
Chosen Option : 2

Comprehension:

प्रश्न संख्या 1 से 5 तक के उत्तर दिए गए गद्यांश के आधार पर दीजिए।

ऋतुराज वसंत के आगमन से ही शीत का भयंकर प्रकोप भाग गया। पतझड़ में पश्चिम-पवन ने जीर्ण-शीर्ण 1.

_____ को गिराकर लताकुंजों, पेड़-पौधों को स्वच्छ और निर्मल बना दिया। वृक्षों और लताओं के अंग में 2.

_____ पत्तियों के प्रस्फुटन से यौवन की मादकता छा गयी। कनेर, करवीर, मदार, पाटल, इत्यादि 3. _____

की सुगंधि दिग्दिगंत में अपनी मादकता का संचार करने लगी। न शीत की कठोरता, न ग्रीष्म का 4. _____।

समशीतोष्ण वातावरण में प्रत्येक 5. _____ की नस-नस में उत्फुल्लता और उमंग की लहरें उठ रही हैं। गेहूँ के सुनहले बालों से पवन स्पर्श के कारण रुनझुन का संगीत फूट रहा है। पत्तों से अँधेरों पर सोया हुआ संगीत मुखर हो गया है।

SubQuestion No : 16

Q.16 विकल्पों में से उपयुक्त शब्द चुनकर रिक्त स्थान 1 की पूर्ति कीजिए।

Ans 1. शाखाओं

2. पुष्पों

3. पल्लवों

4. पत्रों

Question ID : 26433069937

Status : Answered

Chosen Option : 3

Comprehension:

प्रश्न संख्या 1 से 5 तक के उत्तर दिए गए गद्यांश के आधार पर दीजिए।

ऋतुराज वसंत के आगमन से ही शीत का भयंकर प्रकोप भाग गया। पतझड़ में पश्चिम-पवन ने जीर्ण-शीर्ण 1.

_____ को गिराकर लताकुंजों, पेड़-पौधों को स्वच्छ और निर्मल बना दिया। वृक्षों और लताओं के अंग में 2.

_____ पत्तियों के प्रस्फुटन से यौवन की मादकता छा गयी। कनेर, करवीर, मदार, पाटल, इत्यादि 3. _____

की सुगंधि दिग्दिगंत में अपनी मादकता का संचार करने लगी। न शीत की कठोरता, न ग्रीष्म का 4. _____।

समशीतोष्ण वातावरण में प्रत्येक 5. _____ की नस-नस में उत्फुल्लता और उमंग की लहरें उठ रही हैं। गेहूँ के सुनहले बालों से पवन स्पर्श के कारण रुनझुन का संगीत फूट रहा है। पत्तों से अँधेरों पर सोया हुआ संगीत मुखर हो गया है।

SubQuestion No : 17

Q.17 विकल्पों में से उपयुक्त शब्द चुनकर रिक्त स्थान 2 की पूर्ति कीजिए।

Ans 1. नूतन

2. सूक्ष्म

3. रंगीन

4. प्राचीन

Question ID : 26433069938

Status : Answered

Chosen Option : 1

Comprehension:

प्रश्न संख्या 1 से 5 तक के उत्तर दिए गए गद्यांश के आधार पर दीजिए।

ऋतुराज वसंत के आगमन से ही शीत का भयंकर प्रकोप भाग गया। पतझड़ में पश्चिम-पवन ने जीर्ण-शीर्ण 1.

_____ को गिराकर लताकुंजों, पेड़-पौधों को स्वच्छ और निर्मल बना दिया। वृक्षों और लताओं के अंग में 2.

_____ पत्तियों के प्रस्फुटन से यौवन की मादकता छा गयी। कनेर, करवीर, मदार, पाटल, इत्यादि 3. _____

की सुगंधि दिग्दिगंत में अपनी मादकता का संचार करने लगी। न शीत की कठोरता, न ग्रीष्म का 4. _____।

समशीतोष्ण वातावरण में प्रत्येक 5. _____ की नस-नस में उत्फुल्लता और उमंग की लहरें उठ रही हैं। गेहूँ के सुनहले बालों से पवन स्पर्श के कारण रुनझुन का संगीत फूट रहा है। पत्तों से अँधेरों पर सोया हुआ संगीत मुखर हो गया है।

SubQuestion No : 18

Q.18 विकल्पों में से उपयुक्त शब्द चुनकर रिक्त स्थान 3 की पूर्ति कीजिए।

Ans 1. पत्तों

2. पुष्पों

3. डालियों

4. जड़ों

Question ID : 26433069939

Status : Answered

Chosen Option : 2

Comprehension:

प्रश्न संख्या 1 से 5 तक के उत्तर दिए गए गद्यांश के आधार पर दीजिए।

ऋतुराज वसंत के आगमन से ही शीत का भयंकर प्रकोप भाग गया। पतझड़ में पश्चिम-पवन ने जीर्ण-शीर्ण 1.

_____ को गिराकर लताकुंजों, पेड़-पौधों को स्वच्छ और निर्मल बना दिया। वृक्षों और लताओं के अंग में 2.

_____ पत्तियों के प्रस्फुटन से यौवन की मादकता छा गयी। कनेर, करवीर, मदार, पाटल, इत्यादि 3. _____

की सुगंधि दिग्दिगंत में अपनी मादकता का संचार करने लगी। न शीत की कठोरता, न ग्रीष्म का 4. _____।

समशीतोष्ण वातावरण में प्रत्येक 5. _____ की नस-नस में उत्फुल्लता और उमंग की लहरें उठ रही हैं। गेहूँ के सुनहले बालों से पवन स्पर्श के कारण रुनझुन का संगीत फूट रहा है। पत्तों से अँधेरों पर सोया हुआ संगीत मुखर हो गया है।

SubQuestion No : 19

Q.19 विकल्पों में से उपयुक्त शब्द चुनकर रिक्त स्थान 4 की पूर्ति कीजिए।

Ans 1. ताप

2. आक्रमण

3. गुस्सा

4. आवेश

Question ID : 26433069940

Status : Answered

Chosen Option : 4

Comprehension:

प्रश्न संख्या 1 से 5 तक के उत्तर दिए गए गद्यांश के आधार पर दीजिए।

ऋतुराज वसंत के आगमन से ही शीत का भयंकर प्रकोप भाग गया। पतझड़ में पश्चिम-पवन ने जीर्ण-शीर्ण 1.

_____ को गिराकर लताकुंजों, पेड़-पौधों को स्वच्छ और निर्मल बना दिया। वृक्षों और लताओं के अंग में 2.

_____ पत्तियों के प्रस्फुटन से यौवन की मादकता छा गयी। कनेर, करवीर, मदार, पाटल, इत्यादि 3. _____

की सुगंधि दिग्दिगंत में अपनी मादकता का संचार करने लगी। न शीत की कठोरता, न ग्रीष्म का 4. _____।

समशीतोष्ण वातावरण में प्रत्येक 5. _____ की नस-नस में उत्फुल्लता और उमंग की लहरें उठ रही हैं। गेहूँ के

सुनहले बालों से पवन स्पर्श के कारण रुनझुन का संगीत फूट रहा है। पत्तों से अँधेरों पर सोया हुआ संगीत मुखर हो गया है।

SubQuestion No : 20

Q.20 विकल्पों में से उपयुक्त शब्द चुनकर रिक्त स्थान 5 की पूर्ति कीजिए।

Ans 1. पशु

2. वस्तु

3. प्राणी

4. पक्षी

Question ID : 26433069941

Status : Answered

Chosen Option : 3

KD Job Updates

Constable GD in CAPFs SSF Rifleman GD in Assam Rifles and Sepoy in NCB Examination 2022

Roll Number	KD Job Updates
Candidate Name	KD Job Updates
Venue Name	Yagyavalkya Institute of Technology
Exam Date	27/01/2023
Exam Time	5:15 PM - 6:15 PM
Subject	Constable GD Examination 2022

Section : Part-A-General Intelligence and Reasoning

Q.1 A @ B का अर्थ है 'A, B का जीवनसाथी है'।
A & B का अर्थ है 'A, B का पिता है'।
A # B का अर्थ है 'A, B की माता है'।
A % B का अर्थ है 'A, B की बहन है'।
यदि H @ V & K % Q # F है, तो H, F से किस प्रकार संबंधित है?

- Ans
- 1. सास
 - 2. दादा
 - 3. नानी
 - 4. ससुर

Question ID : 26433069618

Status : Answered

Chosen Option : 3

Q.2 नीचे दिए गए समीकरण को गणितीय रूप से सही बनाने के लिए किन दो चिन्हों को परस्पर बदलना चाहिए?
 $24 + 36 \times 32 - 8 \div 20 = 148$

- Ans
- 1. + और ×
 - 2. + और ÷
 - 3. - और +
 - 4. ÷ और -

Question ID : 264330117509

Status : Answered

Chosen Option : 4

Q.3 छः व्यक्ति M, N, O, P, Q और R एक वृत्ताकार मेज के परितः मेज के केंद्र की ओर मुख करके बैठे हैं। Q, M और R के ठीक बगल में बैठा है। N, Q के बाईं ओर तीसरे स्थान पर बैठा है। O, R और N के ठीक बगल में है। R, N के बाईं ओर दूसरे स्थान पर बैठा है। N के दाईं ओर से देखने पर, M और N के बीच में कौन बैठा है?

- Ans
- 1. O
 - 2. R
 - 3. Q
 - 4. P

Question ID : 26433081517

Status : Answered

Chosen Option : 1

Q.4 कौन-सा अक्षर-समूह दी गई श्रृंखला में प्रश्नचिह्न (?) के स्थान पर आकर श्रृंखला को पूर्ण करेगा?
DCAB, ?, NMKL, SRPQ, XWUV

- Ans
- 1. EFIH
 - 2. IHFG
 - 3. EFHI
 - 4. HIFG

Question ID : 26433067715

Status : Answered

Chosen Option : 2

Q.5 दिए गए विकल्पों में से उस अक्षर-समूह का चयन कीजिए जो निम्न श्रृंखला में प्रश्न-चिह्न (?) के स्थान पर आ सकता है।
RBWP, TWYR, VRAT, ?, ZHEX

- Ans
- 1. XCVM
 - 2. FVGW
 - 3. XMCV
 - 4. FTXH

Question ID : 26433074737

Status : Answered

Chosen Option : 3

KD Job Updates

Q.6 यदि श्रृंखला जारी रखनी है तो कौन-सी आकृति प्रश्न चिह्न (?) के स्थान पर

आएगी?

F	3	C	3	C	F	□	B	3	B	3	□	?
	V			B			C			A		
	B			V			A			C		
8	□	A	□	A	8	8	V	F	V	F	8	

Ans

✓ 1.

V	A	B
	3	
	F	
8	C	□

✗ 2.

□	A	8
	3	
	F	
B	C	V

✗ 3.

3	□	B
	C	
	A	
F	8	V

✗ 4.

V	F	B
	3	
	A	
8	C	□

Question ID : 26433076639

Status : Not Answered

Chosen Option : --

Q.7 तीन कथनों के बाद तीन निष्कर्ष I, II और III दिए गए हैं। कथनों को सत्य मानते हुए, भले ही वे सामान्य रूप से ज्ञात तथ्यों से भिन्न प्रतीत होते हों, निर्धारित करें कि कौन-सा/से निष्कर्ष कथनों का तार्किक रूप से अनुसरण करता है/करते हैं।

कथन:

सभी पुस्तक कठोर हैं।

कुछ कठोर पत्थर हैं।

कुछ पत्थर कार हैं।

निष्कर्ष:

I. कुछ कठोर पुस्तक हैं।

II. सभी कठोर पत्थर हैं।

III. कुछ कार पत्थर हैं।

Ans ✗ 1. निष्कर्ष I और II दोनों अनुसरण करते हैं।

✗ 2. सभी निष्कर्ष अनुसरण करते हैं।

✗ 3. निष्कर्ष II और III दोनों अनुसरण करते हैं।

✓ 4. निष्कर्ष I और III दोनों अनुसरण करते हैं।

Question ID : 26433074632

Status : Answered

Chosen Option : 4

Q.8 उस विकल्प का चयन कीजिए जो पांचवें अक्षर-समूह से उसी प्रकार संबंधित है जिस प्रकार दूसरा अक्षर-समूह पहले अक्षर-समूह से संबंधित है और चौथा अक्षर-समूह तीसरे अक्षर-समूह से संबंधित है।
ONCE: LLVS :: LIST: OQFD :: PACK: ?

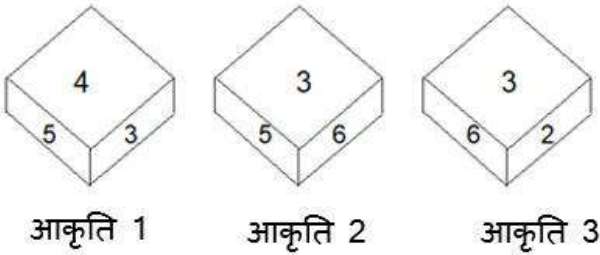
- Ans
- 1. KZXP
 - 2. JYWO
 - 3. IXVM
 - 4. KYVM

Question ID : 26433057499

Status : Answered

Chosen Option : 4

Q.9 एक ही पासे की तीन अलग-अलग स्थितियां दर्शाई गई हैं। '1' वाले फलक के विपरीत फलक पर संख्या ज्ञात करें।



- Ans
- 1. 3
 - 2. 2
 - 3. 5
 - 4. 6

Question ID : 26433089451

Status : Answered

Chosen Option : 2

Q.10 छः विद्यार्थी एक वृत्ताकार मेज के परितः मेज के केंद्र की ओर मुख करके बैठे हैं। A, C के बाईं ओर ठीक बगल में बैठा है। E, D के दाईं ओर तीसरे स्थान पर बैठा है। D, C के ठीक बगल में बैठा है। B, E और F दोनों के ठीक बगल में बैठा है। इनमें से कौन C और E के ठीक बगल में बैठा है?

- Ans
- 1. B
 - 2. F
 - 3. D
 - 4. A

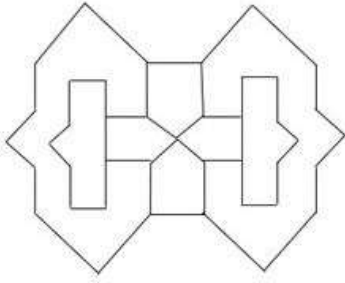
Question ID : 26433079502

Status : Answered

Chosen Option : 4

Q.11 वह विकल्प चित्र चुनिए, जो प्रस्तुत चित्र में अंतर्निहित है। (घुमाना अनुमन्य नहीं है)

है)

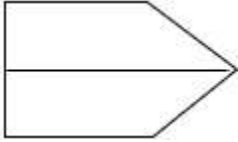


Ans

✓ 1.



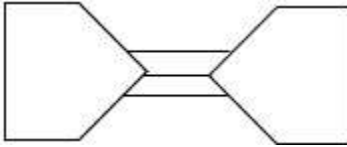
✗ 2.



✗ 3.



✗ 4.



Question ID : 26433069353

Status : Answered

Chosen Option : 1

Q.12 निम्नलिखित में से कौन-सी संख्या दी गई श्रंखला में प्रश्न-चिह्न (?) के स्थान पर आएगी?
132, 154, 176, ?, 220

Ans ✓ 1. 198

✗ 2. 184

✗ 3. 192

✗ 4. 189

Question ID : 26433076735

Status : Answered

Chosen Option : 1

Q.13 उस विकल्प का चयन कीजिए जो तीसरे शब्द से उसी प्रकार संबंधित है जिस प्रकार दूसरा शब्द पहले शब्द से संबंधित है। (शब्दों को अर्थपूर्ण शब्दों के रूप में मानना है और उन्हें शब्द में अक्षरों/व्यंजनों/स्वरों की संख्या के आधार पर एक-दूसरे से संबंधित नहीं करना है।)
गुलदस्ता : फूल :: चैन : _____

- Ans
- 1. पेड़
 - 2. कड़ी
 - 3. पौधा
 - 4. भारी

Question ID : 26433078827

Status : Answered

Chosen Option : 2

Q.14 दर्पण को नीचे दिए गए चित्र के अनुसार MN पर रखे जाने पर दी गई आकृति का दर्पण में निर्मित सही प्रतिबिंब चयनित कीजिए।

S O B x z F G L

M

|

N

- Ans
- 1. L G F z x B O S
 - 2. L G F z x B O S
 - 3. L G F z x B O S
 - 4. L G F z x B O S

Question ID : 26433080809

Status : Answered

Chosen Option : 1

Q.15 एक निश्चित कूट भाषा में यदि CAB को 75 के रूप में और DIP को 52 के रूप में कूटबद्ध किया जाता है, तो उसी भाषा में FLY को कैसे कूटबद्ध किया जाएगा?

- Ans
- 1. 26
 - 2. 38
 - 3. 44
 - 4. 42

Question ID : 26433068064

Status : Answered

Chosen Option : 2

Q.16 निम्नलिखित में से कौन-सी संख्या दी गई श्रृंखला में प्रश्न-चिह्न (?) के स्थान पर पर आएगी?
1, 5, 16, 41, 87, 161, ?

- Ans 1. 270
 2. 226
 3. 266
 4. 206

Question ID : 26433069116
Status : Answered
Chosen Option : 3

Q.17 एक निश्चित कूट भाषा में, 'PAPER' को 'QCSIW' के रूप में लिखा जाता है और 'BOARD' को 'CQDVI' के रूप में लिखा जाता है, उसी भाषा में 'PENCIL' को कैसे लिखा जाएगा?

- Ans 1. QGPGNP
 2. RGQGNR
 3. PGQGNP
 4. QGQGNR

Question ID : 26433079390
Status : Answered
Chosen Option : 4

Q.18 किस विकल्प में निम्नलिखित शब्दों का वह क्रम दिया गया है, जिस क्रम में वे अंग्रेजी शब्दकोश में आते हैं?

- 1 demolish
2 demon
3 destroy
4 decor
5 detour

- Ans 1. 4,5,1,2,3
 2. 4,2,1,5,3
 3. 4,1,3,2,5
 4. 4,1,2,3,5

Question ID : 26433069287
Status : Answered
Chosen Option : 4

Q.19 दिए गए समीकरण को संतुलित करने के लिए निम्न में से किन दो चिह्नों को परस्पर बदलना होगा?
 $192 \div 16 + 8 \times 25 - 95 = 26$

- Ans 1. \div और +
 2. + और \times
 3. - और \div
 4. \times और -

Question ID : 26433081085
Status : Answered
Chosen Option : 2

Q.20 उस समुच्चय का चयन करें, जिसकी संख्याओं के बीच ठीक वही संबंध है, जो संबंध निम्नांकित समुच्चयों की संख्याओं में हैं।
(नोट: संख्याओं को उसके घटक अंकों में विभाजित किए बिना, पूर्ण संख्याओं पर ही गणितीय संक्रियाएँ की जानी चाहिए। जैसे 13 - मान लीजिए 13 पर गणितीय संक्रियाएँ जैसे कि 13 में जोड़ना/घटाना/गुणा करना आदि किया जा सकता है। 13 को 1 और 3 में तोड़कर और फिर 1 और 3 पर गणितीय संक्रियाएँ करने की अनुमति नहीं है।)
(13, 390, 6)
(9, 180, 4)

- Ans 1. (11, 385, 7)
 2. (8, 224, 4)
 3. (9, 220, 5)
 4. (12, 432, 9)

Question ID : 26433076534
Status : Answered
Chosen Option : 1

Section : Part-B-General Knowledge and General awareness

Q.1 अक्टूबर 2022 में, भारत के उप चुनाव आयुक्त के रूप में किसे नियुक्त किया गया?

- Ans 1. सुनील अरोड़ा
 2. अजय भादू
 3. राजीव कुमार
 4. ओम प्रकाश रावत

Question ID : 264330114999
Status : Answered
Chosen Option : 1

Q.2 इस योजना के अंतर्गत, गरीबी रेखा से नीचे (BPL) परिवारों को 5 करोड़ LPG (लिक्विफाइड पेट्रोलियम गैस) कनेक्शन प्रदान किए गए।

- Ans 1. सांसद आदर्श ग्राम योजना
 2. बेटी बचाओ बेटी पढ़ाओ
 3. स्किल इंडिया मिशन
 4. प्रधानमंत्री उज्वला योजना

Question ID : 264330116178
Status : Answered
Chosen Option : 4

Q.3 नवंबर 2022 तक की स्थिति के अनुसार, 2022 में हुए चुनावों से पहले गुजरात के मुख्यमंत्री कौन थे?

- Ans 1. विजय रुपाणी
 2. धनजीभाई पटेल
 3. भूपेन्द्र पटेल
 4. ईसुदान गढ़वी

Question ID : 264330114918
Status : Answered
Chosen Option : 3

Q.4 नाभिकीय विखंडन के संदर्भ में सही कथन की पहचान करें।

- Ans
- 1. एक निम्न-ऊर्जा परमाणु के नाभिक पर, जब उच्च-ऊर्जा न्यूट्रॉनों की बौछार की जाती है, तो उसे भारी नाभिकों में विभाजित किया जा सकता है।
 - 2. उच्च-ऊर्जा इलेक्ट्रॉनों और निम्न-ऊर्जा न्यूट्रॉन का एक साथ आना नाभिकीय विखंडन कहलाता है।
 - 3. एक भारी परमाणु के नाभिक पर, जब निम्न-ऊर्जा न्यूट्रॉनों की बौछार की जाती है, तो उसे हल्के नाभिकों में विभाजित किया जा सकता है।
 - 4. एक निम्न-ऊर्जा परमाणु के नाभिक पर, जब उच्च-ऊर्जा न्यूट्रॉनों की बौछार की जाती है, तो उसे हल्के नाभिकों में विभाजित किया जा सकता है।

Question ID : 26433096237

Status : Answered

Chosen Option : 2

Q.5 आंध्र प्रदेश का गठन किस तारीख को हुआ था?

- Ans
- 1. 26 जनवरी 1953 को
 - 2. 1 नवंबर 1956 को
 - 3. 15 अगस्त 1953 को
 - 4. 2 अक्टूबर 1956 को

Question ID : 26433090660

Status : Answered

Chosen Option : 2

Q.6 2011 की जनगणना के अनुसार भारत का जनसंख्या घनत्व (प्रति वर्ग किमी) कितना है?

- Ans
- 1. 298
 - 2. 198
 - 3. 382
 - 4. 442

Question ID : 264330116041

Status : Answered

Chosen Option : 3

Q.7 हॉकी इंडिया लीग (HIL) की शुरुआत निम्न में से किस वर्ष हुई थी?

- Ans
- 1. 2011
 - 2. 2012
 - 3. 2013
 - 4. 2010

Question ID : 264330116294

Status : Not Attempted and
Marked For Review

Chosen Option : --

Q.8 एशियाई खेल 2018 के समापन समारोह में भारतीय दल का ध्वजवाहक कौन था/थी?

- Ans
- 1. नीरज चोपड़ा
 - 2. हिमा दास
 - 3. रानी रामपाल
 - 4. पीटी उषा

Question ID : 26433092321

Status : Answered

Chosen Option : 2

Q.9 भारत में दुनिया का दूसरा सबसे बड़ा _____ नेटवर्क है, जो कुल मिलाकर लगभग 62.16 लाख km (2020-21) तक समेकित है।

- Ans
- 1. सड़क
 - 2. समुद्र
 - 3. रेल
 - 4. वायु

Question ID : 264330115543

Status : Answered

Chosen Option : 3

Q.10 मौर्य साम्राज्य के किस सम्राट ने युद्ध जीतने के बाद विजय का त्याग कर दिया था?

- Ans
- 1. अशोक
 - 2. चंद्रगुप्त मौर्य
 - 3. बिंदुसार
 - 4. दशरथ

Question ID : 26433085214

Status : Answered

Chosen Option : 1

Q.11 तमिलनाडु में सर्दियों की बारिश _____ के कारण होती है।

- Ans
- 1. उत्तर-पूर्वी व्यापारिक पवनें
 - 2. शीतोष्ण चक्रवात
 - 3. स्थानीय हवा
 - 4. दक्षिण-पश्चिम व्यापारिक पवनें

Question ID : 26433089656

Status : Answered

Chosen Option : 4

Q.12 केलूचरण महापात्रा ने किस नृत्य शैली में अपनी पहचान बनाई?

- Ans
- 1. ओडिसी
 - 2. सत्रीया
 - 3. छऊ
 - 4. कुचिपुड़ी

Question ID : 264330115832

Status : Answered

Chosen Option : 4

Q.13 ऋण के लिए सुरक्षा के रूप में ऋणदाता के पास उधारकर्ता द्वारा गिरवी रखी गई संपत्ति, _____ कहलाती है।

- Ans
- 1. द्विपक्षीय
 - 2. बहुपक्षीय
 - 3. एकपक्षीय
 - 4. संपार्श्विक

Question ID : 264330115296

Status : Answered

Chosen Option : 4

Q.14 भारत के संविधान का निम्नलिखित में से कौन सा अनुच्छेद भारत के राष्ट्रपति को सजा या सजा के मामले में क्षमा करने का अधिकार देता है?

- Ans
- 1. अनुच्छेद 65
 - 2. अनुच्छेद 78
 - 3. अनुच्छेद 72
 - 4. अनुच्छेद 66

Question ID : 26433074904

Status : Answered

Chosen Option : 3

Q.15 कथकली नृत्य शैली की उत्पत्ति भारत के किस भाग में हुई?

- Ans
- 1. पूर्वी भारत
 - 2. दक्षिण भारत
 - 3. पश्चिम भारत
 - 4. उत्तर भारत

Question ID : 26433086708

Status : Answered

Chosen Option : 2

Q.16 मोपिन भारत के किस राज्य का सांस्कृतिक उत्सव है?

- Ans
- 1. महाराष्ट्र
 - 2. अरुणाचल प्रदेश
 - 3. मिजोरम
 - 4. नागालैंड

Question ID : 264330109604

Status : Answered

Chosen Option : 1

Q.17 भारत में किस पंचवर्षीय योजना के तहत परिवार नियोजन कार्यक्रम का कार्यान्वयन योजना के प्रमुख लक्ष्यों में से एक था?

- Ans
- 1. पाँचवीं
 - 2. चौथी
 - 3. तीसरी
 - 4. दूसरी

Question ID : 26433082235

Status : Answered

Chosen Option : 1

Q.18 किस पंचवर्षीय योजना में 'तीव्र और अधिक समावेशी विकास' की अवधारणा गढ़ी गई थी?

- Ans
- 1. 9वीं
 - 2. 11वीं
 - 3. 8वीं
 - 4. 10वीं

Question ID : 264330116131

Status : Answered

Chosen Option : 1

Q.19 कुख्यात जलियांवाला बाग की घटना कब हुई थी?

- Ans
- 1. 13 अप्रैल 1919
 - 2. 13 अप्रैल 1920
 - 3. 13 अप्रैल 1918
 - 4. 11 अप्रैल 1919

Question ID : 264330106573

Status : Answered

Chosen Option : 1

Q.20 निम्नलिखित में से कौन सा प्रोटीन का स्रोत नहीं है?

- Ans
- 1. मांस
 - 2. मछली
 - 3. दूध
 - 4. नींबू

Question ID : 264330115215

Status : Answered

Chosen Option : 4

Section : Part-C-Elementary Mathematics

Q.1 यदि X और Y का अनुपात 3 : 4 है, तो X और Y के बीच संबंध ज्ञात कीजिये।

- Ans
- 1. X, Y का 75 प्रतिशत है और Y, X का 133.33 प्रतिशत है दोनों
 - 2. X, Y का 35 प्रतिशत है
 - 3. Y, X का 120 प्रतिशत है
 - 4. X, Y का 80 प्रतिशत है

Question ID : 26433076005

Status : Answered

Chosen Option : 1

Q.2 प्रिया अपनी वस्तुओं के अंकित मूल्य पर 5 प्रतिशत की छूट देती है और फिर भी 18 प्रतिशत का लाभ अर्जित करती है। किसी वस्तु का क्रय मूल्य क्या है, यदि उसका अंकित मूल्य रु. 944?

- Ans
- 1. 854 रुपए
 - 2. 760 रुपए
 - 3. 580 रुपए
 - 4. 684 रुपए

Question ID : 264330116747

Status : Answered

Chosen Option : 3

Q.3 500 पेपरों का एक रिम ₹280 में खरीदा जाता है, और इससे 25 पेपरों के पैकेट बनाए जाते हैं। प्रत्येक पैकेट को ₹18 में बेचा जाता है। प्रतिशत लाभ या हानि ज्ञात करें। (एक दशमलव स्थान तक पूर्णांकित)।

- Ans
- 1. 24.5% लाभ
 - 2. 24.6% हानि
 - 3. 28.6% लाभ
 - 4. 26.5% लाभ

Question ID : 26433081707

Status : Answered

Chosen Option : 3

Q.4 3 घंटा 20 मिनट, 1 घंटा 50 मिनट और 6 घंटा 20 मिनट का चतुर्थानुपाती ज्ञात करें।

Ans 1. 3 घंटा 29 मिनट

2. 4 घंटा 19 मिनट

3. 3 घंटा 19 मिनट

4. 4 घंटा 29 मिनट

Question ID : 26433080120

Status : Not Answered

Chosen Option : --

Q.5 तीन संख्याएँ 4 : 5 : 6 के अनुपात में हैं और उनका लघुतम समापवर्त्य 180 है। उनका महत्तम समापवर्तक _____ है।

Ans 1. 3

2. 2

3. 8

4. 4

Question ID : 26433082352

Status : Answered

Chosen Option : 1

Q.6 वर्ष 2001, 2002, 2003 और 2004 में एक इलेक्ट्रॉनिक्स की दुकान की बिक्री का औसत 1850 है और 2002, 2003, 2004 और 2005 के लिए औसत 2125 है। यदि 2005 में बिक्री 1200 है, तो 2001 में बिक्री ज्ञात कीजिए।

Ans 1. 100

2. 130

3. 110

4. 120

Question ID : 26433076302

Status : Not Answered

Chosen Option : --

Q.7 ₹3,00,000 पर $2\frac{1}{2}$ वर्ष के लिए 20% वार्षिक दर से चक्रवृद्धि ब्याज ज्ञात करें जबकि ब्याज अर्ध-वार्षिक रूप से संयोजित होना है।

Ans 1. ₹1,73,153

2. ₹1,92,156

3. ₹1,83,153

4. ₹1,62,156

Question ID : 26433080125

Status : Answered

Chosen Option : 1

Q.8 A और B मिलकर कोई काम 20 दिन में कर सकते हैं, जबकि B अकेले उसे 25 दिन में पूरा कर सकता है। उसी काम को अकेले पूरा करने में A को कितने दिन लगेंगे?

- Ans
- 1. 150
 - 2. 60
 - 3. 100
 - 4. 80

Question ID : 26433079892

Status : Answered

Chosen Option : 3

Q.9 11 संख्याओं का औसत 7.5 है। औसत 8.5 करने के लिए उनमें कौन सी 12वीं संख्या जोड़ी जानी चाहिए?

- Ans
- 1. 17.5
 - 2. 21.5
 - 3. 19.5
 - 4. 11.5

Question ID : 26433079844

Status : Answered

Chosen Option : 1

Q.10 एक दुकानदार एक वस्तु पर 15%, 30% और 4% की तीन क्रमागत छूटें देता है। यदि वस्तु का अंकित मूल्य ₹1,950 है, तो उसका विक्रय मूल्य क्या होगा (₹ में, निकटतम दहाई तक पूर्णांकित)?

- Ans
- 1. 1,110
 - 2. 1,020
 - 3. 1,130
 - 4. 1,150

Question ID : 26433061891

Status : Not Answered

Chosen Option : --

Q.11 11.6 m, 9.2 m, 32.8 m का चतुर्धनुषाती निर्धारित करें। (दो दशमलव स्थान तक मान लें)

- Ans
- 1. 22.01 m
 - 2. 20.01 m
 - 3. 28.01 m
 - 4. 26.01 m

Question ID : 26433081030

Status : Marked For Review

Chosen Option : 2

Q.12 एक गाँव की जनसंख्या में पहले वर्ष में $12\frac{1}{2}\%$ की वृद्धि होती है और दूसरे वर्ष में 8% की कमी होती है। यदि गाँव की वर्तमान जनसंख्या 3200 है, तो 2 वर्ष बाद गाँव की जनसंख्या कितनी होगी?

- Ans
- 1. 3564
 - 2. 3312
 - 3. 3412
 - 4. 3388

Question ID : 26433075681

Status : Answered

Chosen Option : 3

Q.13 एक अर्धगोले का व्यास 6 cm है। इसके वक्र पृष्ठीय क्षेत्रफल और संपूर्ण पृष्ठीय क्षेत्रफल के मानों का अनुपात क्या होगा?

- Ans
- 1. 2 : 3
 - 2. 3 : 5
 - 3. 1 : 2
 - 4. 1 : 3

Question ID : 26433075210

Status : Not Answered

Chosen Option : --

Q.14 A और B मिलकर एक कार्य को 21 दिनों में कर सकते हैं। B और C मिलकर इसे 24 दिनों में कर सकते हैं। A और C मिलकर इसे 33 दिनों में कर सकते हैं। A, B और C मिलकर इसे लगभग कितने दिनों में पूरा करेंगे?

- Ans
- 1. 14 दिन
 - 2. 13 दिन
 - 3. 15 दिन
 - 4. 17 दिन

Question ID : 264330116862

Status : Not Answered

Chosen Option : --

Q.15 A, B और C एक वृत्ताकार ट्रैक पर दौड़ते हैं। A, B और C को एक चक्कर पूरा करने में क्रमशः 6 मिनट, 8 मिनट और 3 मिनट का समय लगता है। यदि वे 5 p.m. बजे एक साथ शुरू करते हैं, तो वे आरंभिक बिन्दु पर दोबारा किस समय मिलेंगे?

- Ans
- 1. 5:12 p.m.
 - 2. 5:18 p.m.
 - 3. 5:24 p.m.
 - 4. 5:08 p.m.

Question ID : 26433076014

Status : Answered

Chosen Option : 3

Q.16 एक ही बिंदु से शुरू होने वाली 5000 m की एक वृत्ताकार दौड़ में, दो प्रतियोगियों A और B की चाल क्रमशः 36 km/h और 54 km/h है। यदि वे विपरीत दिशा में और समान दिशा में दौड़ते हैं, तो दोनों स्थिति में ट्रैक पर उनके पहली बार मिलने के समय के बीच का अंतर (सेकंड में) ज्ञात करें।

- Ans
- 1. 600
 - 2. 800
 - 3. 200
 - 4. 1000

Question ID : 26433066183

Status : Answered

Chosen Option : 3

Q.17 किसी वस्तु को एक निश्चित मूल्य पर बेचने पर एक महिला को 30 प्रतिशत का लाभ होता है। यदि वह इसे दोगुने मूल्य पर बेचती है, तो अर्जित लाभ कितने प्रतिशत होगा?

- Ans
- 1. 140 प्रतिशत
 - 2. 130 प्रतिशत
 - 3. 160 प्रतिशत
 - 4. 120 प्रतिशत

Question ID : 26433079858

Status : Answered

Chosen Option : 3

Q.18 अफज़ल की मासिक आय Rs.35,000 है। वह अपनी मासिक आय का 20% भोजन पर, 30% कपड़ों पर और 15% किराए पर खर्च करता है। अफज़ल प्रति माह कितनी धनराशि की बचत करता है?

- Ans
- 1. Rs.16,660
 - 2. Rs.14,200
 - 3. Rs.15,220
 - 4. Rs.12,250

Question ID : 26433080297

Status : Answered

Chosen Option : 1

Q.19 सबसे बड़ी संख्या के अंकों का योग ज्ञात करें जो 288 और 432 को पूर्णतः विभाजित कर सकती है।

- Ans
- 1. 12
 - 2. 9
 - 3. 3
 - 4. 4

Question ID : 264330116635

Status : Answered

Chosen Option : 2

Q.20 यदि एक शंकु के आधार की त्रिज्या और तिर्यक ऊँचाई क्रमशः 17 cm और 25 cm है, तो शंकु का कुल पृष्ठीय क्षेत्रफल क्या होगा?

- Ans
- 1. 2244 cm²
 - 2. 2292 cm²
 - 3. 2288 cm²
 - 4. 2266 cm²

Question ID : 26433075708

Status : Not Answered

Chosen Option : --

Section : Part-D-English

Q.1 Select the most appropriate option to fill in the blank.

He visited his mother _____ after she was discharged from the hospital.

- Ans
- 1. more or less
 - 2. by and by
 - 3. now and then
 - 4. round and round

Question ID : 26433084651

Status : Not Answered

Chosen Option : --

Q.2 Select the most appropriate meaning of the given idiom.

Explore all avenues

- Ans
- 1. To discover new routes
 - 2. To discover new ideas
 - 3. To discover new things
 - 4. Try out every possibility to get a result

Question ID : 26433072681

Status : Not Answered

Chosen Option : --

Q.3 Select the most appropriate option that can substitute the underlined segment in the given sentence.

He has given us no reason to be prestigious of him.

- Ans
- 1. be ambitious
 - 2. be auspicious
 - 3. be suspicious
 - 4. be proudly

Question ID : 26433088509

Status : Not Answered

Chosen Option : --

Q.4 Select the INCORRECTLY spelt word.

- Ans
- 1. Pester
 - 2. Orientation
 - 3. Exaggerate
 - 4. Reference

Question ID : 26433073601
Status : Not Answered
Chosen Option : --

Q.5 Select the most appropriate synonym of the given word.

Noble

- Ans
- 1. Agile
 - 2. Dignified
 - 3. Humble
 - 4. Regular

Question ID : 26433072191
Status : Not Answered
Chosen Option : --

Q.6 Select the most appropriate synonym of the given word.

Reckon

- Ans
- 1. Relieve
 - 2. Release
 - 3. Think
 - 4. Terminate

Question ID : 26433073637
Status : Not Answered
Chosen Option : --

Q.7 Select the INCORRECTLY spelt word.

- Ans
- 1. Perceive
 - 2. Vacuous
 - 3. Malicious
 - 4. Repugnant

Question ID : 26433073605
Status : Not Answered
Chosen Option : --

Q.8 Select the correct option to substitute the underlined segment in the given sentence.

Let I clear the doubts, if any.

- Ans
- 1. Let mine
 - 2. Let my
 - 3. Let myself
 - 4. Let me

Question ID : 26433092998

Status : Not Answered

Chosen Option : --

Q.9 Select the correct word for the blanks in the given sentence.

Health is a state of _____ being, and a _____ is used to draw water from the ground.

- Ans
- 1. fine
 - 2. good
 - 3. well
 - 4. tubewell

Question ID : 26433060540

Status : Not Answered

Chosen Option : --

Q.10 Select the most appropriate meaning of the given idiom.

Spinning one's wheels

- Ans
- 1. To talk about oneself for achieving something
 - 2. To make a lot of effort without achieving anything
 - 3. To talk about random things
 - 4. To do a lot of work for achieving something

Question ID : 26433072680

Status : Not Answered

Chosen Option : --

Q.11 Select the most appropriate ANTONYM of the given word.

Erudite

- Ans
- 1. Primeval
 - 2. Inherent
 - 3. Civilized
 - 4. Ignorant

Question ID : 26433071982

Status : Not Answered

Chosen Option : --

Q.12 Select the most appropriate ANTONYM of the underlying word in the given sentence and complete the sentence.

He was _____ by his brother's attitude, but his mother's words calmed him.

- Ans
- 1. solaced
 - 2. agitated
 - 3. effaced
 - 4. acquitted

Question ID : 26433084711
Status : Not Answered
Chosen Option : --

Q.13 The following sentence has been divided into parts. One of them may contain an error. Select the part that contains the error from the given options.

Tomorrow is a/ holiday for all /except me as/ I will writing my exam.

- Ans
- 1. I will writing my exam
 - 2. holiday for all
 - 3. Tomorrow is a
 - 4. except me as

Question ID : 26433089823
Status : Not Answered
Chosen Option : --

Q.14 Select the most appropriate ANTONYM of the given word.

Obvious

- Ans
- 1. Plain
 - 2. Clear
 - 3. Straight
 - 4. Cryptic

Question ID : 26433072271
Status : Not Answered
Chosen Option : --

Q.15 Select the most appropriate homonym to fill in the blank.

He planned a weeklong _____ down the Nile.

- Ans
- 1. cruise
 - 2. crews
 - 3. cruse
 - 4. crus

Question ID : 26433089073
Status : Not Answered
Chosen Option : --

Comprehension:

In the following passage, some words have been deleted. Read the passage carefully and select the most appropriate option to fill in each blank.

Amla tree is (1) _____ to be thousands of years old. It is called aamaleki and dhaatri in Sanskrit. Its botanical name is Emblica Officinalis. The amla tree is a medium (2) _____ tree with citrus fruits. It is found almost everywhere in India (3) _____ for some very high mountainous regions. It is found (4) _____ in Madhya Pradesh. The leaves are very small and have a close (5) _____ to those of Gulmohar. The amla tree has slender branches which grow upwards and surround the trees on all sides.

SubQuestion No : 16

Q.16 Select the most appropriate option to fill in blank no. 1.

- Ans 1. considered
 2. contemplated
 3. reviewed
 4. examined

Question ID : 26433072256

Status : Not Answered

Chosen Option : --

Comprehension:

In the following passage, some words have been deleted. Read the passage carefully and select the most appropriate option to fill in each blank.

Amla tree is (1) _____ to be thousands of years old. It is called aamaleki and dhaatri in Sanskrit. Its botanical name is Emblica Officinalis. The amla tree is a medium (2) _____ tree with citrus fruits. It is found almost everywhere in India (3) _____ for some very high mountainous regions. It is found (4) _____ in Madhya Pradesh. The leaves are very small and have a close (5) _____ to those of Gulmohar. The amla tree has slender branches which grow upwards and surround the trees on all sides.

SubQuestion No : 17

Q.17 Select the most appropriate option to fill in blank no. 2.

- Ans 1. sorted
 2. assessed
 3. sized
 4. weighed

Question ID : 26433072257

Status : Not Answered

Chosen Option : --

Comprehension:

In the following passage, some words have been deleted. Read the passage carefully and select the most appropriate option to fill in each blank.

Amla tree is (1) _____ to be thousands of years old. It is called aamaleki and dhaatri in Sanskrit. Its botanical name is Emblica Officinalis. The amla tree is a medium (2) _____ tree with citrus fruits. It is found almost everywhere in India (3) _____ for some very high mountainous regions. It is found (4) _____ in Madhya Pradesh. The leaves are very small and have a close (5) _____ to those of Gulmohar. The amla tree has slender branches which grow upwards and surround the trees on all sides.

SubQuestion No : 18

Q.18 Select the most appropriate option to fill in blank no. 3.

- Ans 1. unless
 2. except
 3. till
 4. without

Question ID : 26433072258

Status : Not Answered

Chosen Option : --

Comprehension:

In the following passage, some words have been deleted. Read the passage carefully and select the most appropriate option to fill in each blank.

Amla tree is (1) _____ to be thousands of years old. It is called aamaleki and dhaatri in Sanskrit. Its botanical name is Emblica Officinalis. The amla tree is a medium (2) _____ tree with citrus fruits. It is found almost everywhere in India (3) _____ for some very high mountainous regions. It is found (4) _____ in Madhya Pradesh. The leaves are very small and have a close (5) _____ to those of Gulmohar. The amla tree has slender branches which grow upwards and surround the trees on all sides.

SubQuestion No : 19

Q.19 Select the most appropriate option to fill in blank no. 4.

- Ans 1. profusely
 2. lavishly
 3. abundantly
 4. wholly

Question ID : 26433072259

Status : Not Answered

Chosen Option : --

Comprehension:

In the following passage, some words have been deleted. Read the passage carefully and select the most appropriate option to fill in each blank.

Amla tree is (1) _____ to be thousands of years old. It is called aamaleki and dhaatri in Sanskrit. Its botanical name is Emblica Officinalis. The amla tree is a medium (2) _____ tree with citrus fruits. It is found almost everywhere in India (3) _____ for some very high mountainous regions. It is found (4) _____ in Madhya Pradesh. The leaves are very small and have a close (5) _____ to those of Gulmohar. The amla tree has slender branches which grow upwards and surround the trees on all sides.

SubQuestion No : 20

Q.20 Select the most appropriate option to fill in blank no. 5.

- Ans 1. resemblance
 2. coincidence
 3. harmony
 4. congruence

Question ID : 26433072260

Status : Not Answered

Chosen Option : --

Section : Part-D-Hindi

Q.1 'जानने की इच्छा' वाक्यांश के लिए सार्थक शब्द है-

- Ans 1. जिज्ञासा
 2. अज्ञ
 3. जानकारी
 4. जिजीविषा

Question ID : 26433065857

Status : Answered

Chosen Option : 1

Q.2 निम्नलिखित विकल्पों में से 'आस्तीन का साँप' मुहावरे का अर्थ क्या है?

- Ans 1. विश्वासपात्र बनना
 2. सबका प्रिय बनकर रहने वाला
 3. प्रिय बनकर धोखा देने वाला
 4. दुष्टता करना

Question ID : 26433062548

Status : Answered

Chosen Option : 3

Q.3 नीचे दिए मुहावरे का सही अर्थ दिए गए विकल्पों में से चुनिए-
लोहा मानना

- Ans
- 1. श्रेष्ठता स्वीकार करना
 - 2. गलती स्वीकार करना
 - 3. सच्चाई स्वीकार करना
 - 4. वीरता स्वीकार करना

Question ID : 26433062312

Status : Answered

Chosen Option : 3

Q.4 “चोर को क्षमा दान कर दिया गया।”
उपरोक्त वाक्य में क्रिया सम्बन्धी त्रुटि पहचानकर निम्नलिखित में से शुद्ध वाक्य का चयन कीजिए।

- Ans
- 1. चोर को क्षमा दान दे दिया गया।
 - 2. चोर को क्षमा दान किया गया।
 - 3. चोर को क्षमा दान प्रदान किया गया।
 - 4. चोर को क्षमा कर दिया गया।

Question ID : 26433066975

Status : Answered

Chosen Option : 4

Q.5 निम्नलिखित में से किस वाक्य में दिए गए शब्द के सही विलोम शब्द का प्रयोग किया गया है?
अंधकार

- Ans
- 1. कमरे में चाँदनी है।
 - 2. कमरे में धुआँ फैला है।
 - 3. कमरे में रसायन फैल रहा है।
 - 4. कमरे में प्रकाश फैला हुआ है।

Question ID : 26433066947

Status : Answered

Chosen Option : 4

Q.6 'किसी बात पर बार-बार जोर देना' वाक्यांश के लिए उचित शब्द क्या होगा?

- Ans
- 1. मुनादी
 - 2. कलरव
 - 3. आग्रह
 - 4. नाद

Question ID : 26433065913

Status : Answered

Chosen Option : 3

Q.7 निम्न में से किस वाक्य में 'क्लेश' के सही पर्यायवाची शब्द का प्रयोग हुआ है?

- Ans
- 1. काव्या की खुशी का ठिकाना नहीं था।
 - 2. अश्विन अधिक रुष्ट हो गया।
 - 3. उस बात का मुझे दुःख है।
 - 4. सुयश मूर्ख है।

Question ID : 26433067017

Status : Answered

Chosen Option : 3

Q.8 'बाढ़ के कारण जान-माल की भारी _____ हो चुकी थी।' उपरोक्त वाक्य में रिक्त स्थान की पूर्ति उपयुक्त शब्द द्वारा कीजिए।

- Ans
- 1. तबाही
 - 2. विनाशलीला
 - 3. रंजिश
 - 4. उगाही

Question ID : 26433069683

Status : Answered

Chosen Option : 2

Q.9 आज मैच देखकर आनंद आ गया। उपरोक्त वाक्य में रेखांकित शब्द के उचित पर्यायवाची शब्द का चयन कीजिए।

- Ans
- 1. रम्य
 - 2. मधवा
 - 3. सुधी
 - 4. प्रसन्नता

Question ID : 26433079722

Status : Answered

Chosen Option : 4

Q.10 'वह पुरुष जिसकी पत्नी मर गई हो' इस वाक्यांश के लिए सार्थक शब्द है -

- Ans
- 1. साधक
 - 2. सधवा
 - 3. विधुर
 - 4. विधवा

Question ID : 26433062334

Status : Answered

Chosen Option : 3

Q.11 घोड़ा जंगल की तरफ भागा।
उपरोक्त वाक्य में 'की तरफ' के बदले कौन सा शब्द प्रयोग हो सकता है ?

- Ans
- 1. के सामने
 - 2. की ओर
 - 3. की और
 - 4. के निकट

Question ID : 26433062693
Status : Answered
Chosen Option : 2

Q.12 निम्न में से अशुद्ध शब्द की पहचान करें।

- Ans
- 1. उज्ज्वल
 - 2. कवयित्री
 - 3. अनधिकार
 - 4. अतिथि

Question ID : 26433067106
Status : Answered
Chosen Option : 1

Q.13 निम्नलिखित में से सकर्मक क्रिया का उदाहरण नहीं है-

- Ans
- 1. सोहन साइकिल चलाता है।
 - 2. मोहन दूध पीता है।
 - 3. बालक दौड़ता है।
 - 4. श्यामा ढोलक बजाती है।

Question ID : 26433085040
Status : Answered
Chosen Option : 4

Q.14 निम्नलिखित वाक्य के किस खंड में त्रुटि है?
मोहिनी का पती परदेश में है।

- Ans
- 1. मोहिनी
 - 2. परदेश
 - 3. का
 - 4. पती

Question ID : 26433066761
Status : Answered
Chosen Option : 4

Q.15 विकल्पों में दिए गए शब्दों में से उचित शब्द चुनकर निम्न वाक्य पूर्ण करें।
हमें _____ का निरादर नहीं करना चाहिए।

- Ans
- 1. अन्
 - 2. अन्य
 - 3. अन
 - 4. अन्न

Question ID : 26433062911

Status : Answered

Chosen Option : 4

Comprehension:

निम्नलिखित गद्यांश में कुछ शब्दों को हटा दिया गया है। दिए गए विकल्पों की सहायता से रिक्त स्थानों की पूर्ति कीजिए। प्रत्येक संख्या के लिए सबसे उपयुक्त विकल्प का चयन कीजिए।

स्कूली सत्र और परीक्षा समाप्त होने के पश्चात लम्बी 1. _____ का आनंद कुछ और ही होता है। पढाई का बोझ सिर से 2. _____ जाता है। उस समय परीक्षा के 3. _____ की प्रतीक्षा होती है। छुट्टियों का समय हमारा 4. _____ होता है। हमारे लिए यह समय अतुल्य 5. _____ से कम नहीं होता है।

SubQuestion No : 16

Q.16 रिक्त स्थान 1 की पूर्ति के लिए सबसे उपयुक्त विकल्प का चयन कीजिए।

- Ans
- 1. बातों
 - 2. रुचियों
 - 3. कक्षाओं
 - 4. छुट्टियों

Question ID : 264330111005

Status : Answered

Chosen Option : 4

Comprehension:

निम्नलिखित गद्यांश में कुछ शब्दों को हटा दिया गया है। दिए गए विकल्पों की सहायता से रिक्त स्थानों की पूर्ति कीजिए। प्रत्येक संख्या के लिए सबसे उपयुक्त विकल्प का चयन कीजिए।

स्कूली सत्र और परीक्षा समाप्त होने के पश्चात लम्बी 1. _____ का आनंद कुछ और ही होता है। पढाई का बोझ सिर से 2. _____ जाता है। उस समय परीक्षा के 3. _____ की प्रतीक्षा होती है। छुट्टियों का समय हमारा 4. _____ होता है। हमारे लिए यह समय अतुल्य 5. _____ से कम नहीं होता है।

SubQuestion No : 17

Q.17 रिक्त स्थान 2 की पूर्ति के लिए सबसे उपयुक्त विकल्प का चयन कीजिए।

- Ans
- 1. बढ़
 - 2. उतर
 - 3. चढ़
 - 4. मर

Question ID : 264330111006

Status : Answered

Chosen Option : 2

Comprehension:

निम्नलिखित गद्यांश में कुछ शब्दों को हटा दिया गया है। दिए गए विकल्पों की सहायता से रिक्त स्थानों की पूर्ति कीजिए। प्रत्येक संख्या के लिए सबसे उपयुक्त विकल्प का चयन कीजिए।

स्कूली सत्र और परीक्षा समाप्त होने के पश्चात लम्बी 1. _____ का आनंद कुछ और ही होता है। पढाई का बोझ सिर से 2. _____ जाता है। उस समय परीक्षा के 3. _____ की प्रतीक्षा होती है। छुट्टियों का समय हमारा 4. _____ होता है। हमारे लिए यह समय अतुल्य 5. _____ से कम नहीं होता है।

SubQuestion No : 18

Q.18 रिक्त स्थान 3 की पूर्ति के लिए सबसे उपयुक्त विकल्प का चयन कीजिए।

- Ans
- 1. योजना
 - 2. ध्यान
 - 3. परिणाम
 - 4. प्रमाण

Question ID : 264330111007

Status : Answered

Chosen Option : 3

Comprehension:

निम्नलिखित गद्यांश में कुछ शब्दों को हटा दिया गया है। दिए गए विकल्पों की सहायता से रिक्त स्थानों की पूर्ति कीजिए। प्रत्येक संख्या के लिए सबसे उपयुक्त विकल्प का चयन कीजिए।

स्कूली सत्र और परीक्षा समाप्त होने के पश्चात लम्बी 1. _____ का आनंद कुछ और ही होता है। पढाई का बोझ सिर से 2. _____ जाता है। उस समय परीक्षा के 3. _____ की प्रतीक्षा होती है। छुट्टियों का समय हमारा 4. _____ होता है। हमारे लिए यह समय अतुल्य 5. _____ से कम नहीं होता है।

SubQuestion No : 19

Q.19 रिक्त स्थान 4 की पूर्ति के लिए सबसे उपयुक्त विकल्प का चयन कीजिए।

- Ans
- 1. कार्यक्रम
 - 2. मिलाकर
 - 3. व्यवसाय
 - 4. अपना

Question ID : 264330111008

Status : Answered

Chosen Option : 4

Comprehension:

निम्नलिखित गद्यांश में कुछ शब्दों को हटा दिया गया है। दिए गए विकल्पों की सहायता से रिक्त स्थानों की पूर्ति कीजिए। प्रत्येक संख्या के लिए सबसे उपयुक्त विकल्प का चयन कीजिए।

स्कूली सत्र और परीक्षा समाप्त होने के पश्चात लम्बी 1. _____ का आनंद कुछ और ही होता है। पढाई का बोझ सिर से 2. _____ जाता है। उस समय परीक्षा के 3. _____ की प्रतीक्षा होती है। छुट्टियों का समय हमारा 4. _____ होता है। हमारे लिए यह समय अतुल्य 5. _____ से कम नहीं होता है।

SubQuestion No : 20

Q.20 रिक्त स्थान 5 की पूर्ति के लिए सबसे उपयुक्त विकल्प का चयन कीजिए।

- Ans
- 1. मित्रों
 - 2. संपत्ति
 - 3. व्यतीत
 - 4. जीवन

Question ID : 264330111009

Status : Answered

Chosen Option : 4

KD Job Updates

Constable GD in CAPFs SSF Rifleman GD in Assam Rifles and Sepoy in NCB Examination 2022

Roll Number	KD Job Updates
Candidate Name	KD Job Updates
Venue Name	Sri Balaji College Of Engineering And Technology
Exam Date	30/01/2023
Exam Time	9:00 AM - 10:00 AM
Subject	Constable GD Examination 2022

Section : Part-A-General Intelligence and Reasoning

Q.1 निम्नलिखित में से कौन-सी संख्या दी गई श्रृंखला में प्रश्न चिह्न (?) के स्थान पर आएगी?
3, 5, 9, ?, 33, 65

Ans ✓ 1. 17

✗ 2. 16

✗ 3. 22

✗ 4. 19

Question ID : 26433070217

Status : Answered

Chosen Option : 1

Q.2 इस प्रश्न में तीन कथन दिए गए हैं, जिसके बाद दो निष्कर्ष I और II दिए गए हैं। कथनों को सत्य मानते हुए, भले ही वे सर्वज्ञात तथ्यों से भिन्न प्रतीत होते हों, निर्णय कीजिए कि कौन-सा/से निष्कर्ष कथनों का तार्किक रूप से अनुसरण करता है/अनुसरण करते हैं।

कथन:

कुछ डॉक्टर विद्वान हैं।

सभी विद्वान बुद्धिमान हैं।

सभी बुद्धिमान स्मार्ट हैं।

निष्कर्ष:

I. कुछ डॉक्टर स्मार्ट हैं।

II. सभी विद्वान स्मार्ट हैं।

Ans ✗ 1. केवल निष्कर्ष I अनुसरण करता है।

✗ 2. न तो निष्कर्ष I और न ही II अनुसरण करता है।

✗ 3. केवल निष्कर्ष II अनुसरण करता है।

✓ 4. निष्कर्ष I और II दोनों अनुसरण करते हैं।

Question ID : 26433070391

Status : Answered

Chosen Option : 4

Q.3 उस समुच्चय का चयन करें, जिसमें संख्याएँ उसी प्रकार संबंधित हैं, जिस प्रकार निम्नलिखित समुच्चयों की संख्याएँ हैं।
(नोट: संख्याओं को उसके घटक अंकों में विभाजित किए बिना, पूर्ण संख्याओं पर ही गणितीय संक्रियाएँ की जानी चाहिए। जैसे 13 - मान लीजिए 13 पर गणितीय संक्रियाएँ जैसे कि 13 में जोड़ना/घटाना/गुणा करना आदि किया जा सकता है। 13 को 1 और 3 में तोड़कर और फिर 1 और 3 पर गणितीय संक्रियाएँ करने की अनुमति नहीं है।)
(15, 16, 155)
(12, 13, 125)

- Ans 1. (9, 18, 145)
 2. (18, 12, 150)
 3. (13, 15, 150)
 4. (21, 15, 195)

Question ID : 26433076485
Status : Not Answered
Chosen Option : --

Q.4 छः मित्र एक वृत्ताकार स्थिति में बैठे हैं। उन सभी का मुख वृत्त के केंद्र की ओर है। पलक, कुमुद के ठीक बगल में बैठी है। झलक, महक के बाईं ओर तीसरे स्थान पर बैठी है। राहत, झलक के दाईं ओर चौथे स्थान पर बैठा है। कुमुद, चहक के दाईं ओर दूसरे स्थान पर बैठी है। राहत के दाईं ओर तीसरे स्थान पर कौन बैठा/बैठी है?

- Ans 1. कुमुद
 2. चहक
 3. महक
 4. पलक

Question ID : 26433069505
Status : Answered
Chosen Option : 1

Q.5 छह मित्र - A, B, C, D, E और F, एक वृत्ताकार मेज के परितः मेज के केंद्र की मुख करके बैठे हैं। B, C और E के ठीक बगल में बैठा है। A, F और D के ठीक बगल में बैठा है। F, C के बाईं ओर ठीक बगल में बैठा है। A और E के बीच में कौन बैठा है?

- Ans 1. B
 2. D
 3. C
 4. F

Question ID : 26433091414
Status : Answered
Chosen Option : 2

Q.6 उस विकल्प का चयन कीजिए जो पांचवें अक्षर-समूह से उसी प्रकार संबंधित है जिस प्रकार दूसरा अक्षर-समूह पहले अक्षर-समूह से संबंधित है और चौथा अक्षर-समूह तीसरे अक्षर-समूह से संबंधित है।
HIGH: SGRJ :: MOVE: NMCG :: BEAT: ?

- Ans 1. VHZV
 2. DWXU
 3. YCXV
 4. YVZG

Question ID : 26433057492
Status : Answered
Chosen Option : 3

Q.7 एक निश्चित कूट भाषा में, FUTURE को 'KWYWWG' लिखा जाता है, और SHREWD को 'XJWGBF' लिखा जाता है। उसी कूट भाषा में 'SAILOR' को किस प्रकार लिखा जाएगा?

- Ans
- 1. XCNMTT
 - 2. XCMMTT
 - 3. XCMNTT
 - 4. XCNNTT

Question ID : 26433067993
 Status : Answered
 Chosen Option : 4

Q.8 यदि श्रृंखला जारी रखनी है तो कौन-सी आकृति प्रश्न चिह्न (?) के स्थान पर

आएगी?

V	□	3	□	3	□	T	□	
	X		V		□		3	?
T	□	3	□	T	X	V	X	V

Ans

- 1.

T		3
	X	
□	□	V
- 2.

T		X
	□	
3	V	□
- 3.

T		X
	□	
3	□	V
- 4.

□		□
	T	
V	X	3

Question ID : 26433076636
 Status : Not Answered
 Chosen Option : --

Q.9 उस विकल्प का चयन कीजिए जो तीसरे शब्द से उसी प्रकार संबंधित है जिस प्रकार दूसरा शब्द पहले शब्द से संबंधित है। (शब्दों को अर्थपूर्ण शब्दों के रूप में मानना है और उन्हें शब्द में अक्षरों/व्यंजनो/स्वरों की संख्या के आधार पर एक-दूसरे से संबंधित नहीं करना है।)
अपराधी : निर्दोष :: प्रसन्नचित्त : ?

- Ans
- 1. जीवंत
 - 2. चमकदार
 - 3. उदास
 - 4. अल्हड़

Question ID : 26433079482

Status : Answered

Chosen Option : 3

Q.10 दिए गए विकल्पों में से वह संख्या चुनिए, जो निम्नलिखित शृंखला में प्रश्न-चिह्न

(?) को प्रतिस्थापित कर सके।

$$\frac{1}{205}, \frac{1}{164}, \frac{1}{123}, \frac{1}{82}, ?$$

Ans

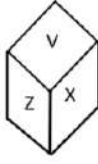
- 1. $\frac{1}{41}$
- 2. $\frac{1}{36}$
- 3. $\frac{1}{22}$
- 4. $\frac{1}{19}$

Question ID : 26433074528

Status : Answered

Chosen Option : 1

Q.11 एक ही पासे की दो अलग-अलग स्थितियों को दर्शाया गया है जिस पर 'U' से 'Z' अक्षर बने है। 'U' दर्शाने वाले फलक के विपरीत फलक पर बना अक्षर ज्ञात कीजिए।



- Ans 1. X
 2. Y
 3. V
 4. W

Question ID : 26433085525
Status : Answered
Chosen Option : 1

Q.12 कौन-सा अक्षर-समूह दी गई श्रृंखला में प्रश्नचिह्न (?) के स्थान पर आकर श्रृंखला को पूर्ण करेगा?
MKLJ, NLMK, OMNL, ?, QOPN

- Ans 1. PONM
 2. PNOM
 3. PNLM
 4. MNOP

Question ID : 26433067711
Status : Answered
Chosen Option : 2

Q.13 निकोल, डियोन की बहन है। वेनेसा, डियोन की माँ है। राज, वेनेसा के पिता हैं। अंजलि, राज की माँ है। पॉल, राज के पिता हैं। वेनेसा, निकोल से किस प्रकार संबंधित है?

- Ans 1. नानी
 2. मौसी
 3. माँ
 4. बहन

Question ID : 26433074597
Status : Answered
Chosen Option : 3

Q.14 निम्नलिखित में से कौन-सा अक्षर-समूह दी गई श्रृंखला में प्रश्न-चिह्न (?) के स्थान पर आएगा?
CXGZ, FUJW, IRMT, ?, OLSN

- Ans 1. MOPP
 2. LPOQ
 3. LOPQ
 4. LPPQ

Question ID : 26433076436
Status : Answered
Chosen Option : 3

Q.15 नीचे दिए गए समीकरण को गणितीय रूप से सही बनाने के लिए किन दो गणितीय चिह्नों को परस्पर बदलना चाहिए?
 $20 + 34 - 81 \times 9 \div 2 = 36$

- Ans
- 1. + और -
 - 2. \times और \div
 - 3. + और \times
 - 4. \div और -

Question ID : 264330114196

Status : Answered

Chosen Option : 2

Q.16 एक निश्चित कूट भाषा में, 'heaven plate' को 'flower rage' के रूप में कूटबद्ध किया जाता है, 'curtain kingdom' को 'computer blanket' के रूप में कूटबद्ध किया जाता है, 'kingdom plate' को 'blanket rage' के रूप में कूटबद्ध किया जाता है और 'heaven curtain' को 'flower computer' के रूप में कूटबद्ध किया जाता है। 'kingdom' के लिए कूट शब्द क्या होगा?

- Ans
- 1. blanket
 - 2. rage
 - 3. flower
 - 4. plate

Question ID : 26433079366

Status : Answered

Chosen Option : 1

Q.17 दर्पण को नीचे दिए गए चित्र के अनुसार MN पर रख जाने पर दी गई आकृति का दर्पण में निर्मित सही प्रतिबिंब चयनित कीजिए।

U n t 5 7 L E
M _____ N

- Ans
- 1.
 - 2.
 - 3.
 - 4.

Question ID : 26433080802

Status : Answered

Chosen Option : 1

Q.18 नीचे दिए गए समीकरण को गणितीय रूप से सही बनाने के लिए किन दो चिन्हों को परस्पर बदलना चाहिए?

$$112 - 8 + 96 \div 16 \times 20 = 0$$

- Ans
- 1. \times और \div
 - 2. $+$ और \div
 - 3. $-$ और \times
 - 4. $-$ और $+$

Question ID : 264330117532

Status : Answered

Chosen Option : 4

Q.19 किस विकल्प में निम्नलिखित शब्दों का वह क्रम दिया गया है, जिस क्रम में वे अंग्रेजी शब्दकोश में आते हैं?

- 1 double
- 2 doctor
- 3 domestic
- 4 domicile
- 5 document

- Ans
- 1. 2,3,5,1,4
 - 2. 2,5,4,1,3
 - 3. 2,4,5,1,3
 - 4. 2,5,3,4,1

Question ID : 26433069284

Status : Answered

Chosen Option : 4

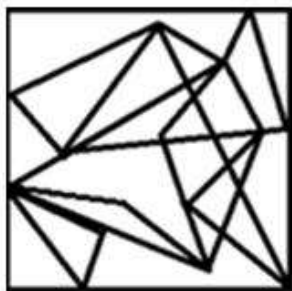
KD Job Updates

Q.20 उस विकल्प आकृति का चयन करें जिसमें दी गई आकृति अंतर्निहित है (घुमाने की अनुमति नहीं है)।

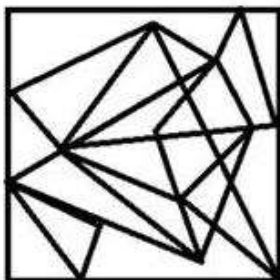


Ans

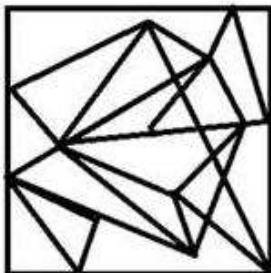
✗ 1.



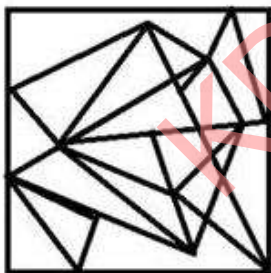
✓ 2.



✗ 3.



✗ 4.



Question ID : 26433069592

Status : Answered

Chosen Option : 2

Q.1 कपास, जूट, रेशम, ऊनी वस्त्र, चीनी और खाद्य तेल आदि किस उद्योग से संबंधित हैं?

- Ans
- 1. संयुक्त क्षेत्र उद्योग
 - 2. भारी उद्योग
 - 3. कृषि आधारित उद्योग
 - 4. खनिज आधारित उद्योग

Question ID : 264330115566
Status : Answered
Chosen Option : 3

Q.2 ब्रेबोर्न क्रिकेट स्टेडियम भारत के निम्नलिखित में से किस राज्य में स्थित है?

- Ans
- 1. मध्य प्रदेश
 - 2. बिहार
 - 3. महाराष्ट्र
 - 4. केरल

Question ID : 264330116253
Status : Not Answered
Chosen Option : --

Q.3 भारत में 2011 की अंतिम जनगणना कितने चरणों में की गई थी?

- Ans
- 1. 2
 - 2. 3
 - 3. 1
 - 4. 4

Question ID : 264330116034
Status : Not Answered
Chosen Option : --

Q.4 मौर्य शासक, अशोक की मृत्यु कब हुई थी?

- Ans
- 1. 258 BC
 - 2. 249 BC
 - 3. 245 BC
 - 4. 232 BC

Question ID : 264330115453
Status : Answered
Chosen Option : 4

Q.5 वैज्ञानिक सोच और मानवतावाद को विकसित करना एक _____ है।

- Ans
- 1. मूल कर्तव्य
 - 2. संवैधानिक उपचार
 - 3. राज्य के नीति निर्देशक तत्व
 - 4. मूल अधिकार

Question ID : 26433080978
Status : Answered
Chosen Option : 1

Q.6 जीव मिल्खा सिंह 1998 में यूरोपीय दौरे में शामिल होने वाले भारत के पहले खिलाड़ी बने। उन्होंने जीते थे:

- (i) यूरोपीय दौरे में चार खिताब
- (ii) जापान गोल्फ दौरे में चार खिताब
- (iii) एशियाई दौरे में छह खिताब

Ans 1. (i), (ii) और (iii)

2. केवल (iii)

3. केवल (i)

4. केवल (ii)

Question ID : 26433089923

Status : Not Answered

Chosen Option : --

Q.7 नवंबर 2022 तक नेशनल इंस्टीट्यूशन फॉर ट्रांसफॉर्मिंग इंडिया (NITI) आयोग के अध्यक्ष कौन थे?

Ans 1. श्री अरविंद केजरीवाल

2. श्री नितिन गडकरी

3. श्री अमित शाह

4. श्री नरेंद्र मोदी

Question ID : 264330115381

Status : Answered

Chosen Option : 2

Q.8 _____ (ODOP) का लक्ष्य, इनपुट के प्रापण, सामान्य सेवाओं के लाभ उठाने और उत्पादों के विपणन के सम्बन्ध में बड़े पैमाने पर लाभ उठाना है।

Ans 1. एक जिला एक उद्देश्य

2. एक जिला एक उत्पाद

3. एक जिला एक व्यक्ति

4. एक अंतर एक उत्पाद

Question ID : 264330116171

Status : Answered

Chosen Option : 2

Q.9 निम्नलिखित में से कौन अगस्त 2022 में भारत के 49वें मुख्य न्यायाधीश बने?

Ans 1. फली सैम नरीमन

2. उदय उमेश ललित

3. गोपाल सुब्रमण्यम

4. मुकुल रोहतगी

Question ID : 264330114915

Status : Answered

Chosen Option : 3

Q.10 भरतनाट्यम के लिए 2009 में पद्म भूषण जीतने वाली जोड़ी _____ है।

- Ans
- 1. महबूब सुभानी और कालीशबी महबूब
 - 2. वन्नादिल पुडियावीट्टिल धनंजयन और शांता धनंजयन
 - 3. के.वी. संपत कुमार और विदुषी के.एस. जयलक्ष्मी
 - 4. कृष्णा एला और सुचित्रा एला

Question ID : 264330115825
Status : Not Answered
Chosen Option : --

Q.11 प्राकृतिक भूकंप पृथ्वी की किस परत में होते हैं?

- Ans
- 1. मध्यमंडल
 - 2. आंतरिक कोर
 - 3. स्थलमंडल
 - 4. दुर्बलतामंडल

Question ID : 264330116002
Status : Answered
Chosen Option : 1

Q.12 जल विद्युत उत्पन्न करने के लिए आप निम्नलिखित में से किस स्थान पर बड़े बांध बना सकते हैं?

- Ans
- 1. महासागर
 - 2. पहाड़ी क्षेत्र
 - 3. मैदानी क्षेत्र
 - 4. रेगिस्तानी क्षेत्र

Question ID : 26433091474
Status : Answered
Chosen Option : 2

Q.13 माइटोकॉन्ड्रिया _____ झिल्ली की बनी होती है।

- Ans
- 1. 5
 - 2. 4
 - 3. 3
 - 4. 2

Question ID : 264330115208
Status : Answered
Chosen Option : 4

Q.14 भारत की GDP में _____ क्षेत्रक के योगदान का अनुपात 1950-51 में 11.8 प्रतिशत से बढ़कर 1990-91 में 24.6 प्रतिशत हो गया था।

- Ans
- 1. रक्षा
 - 2. सेवा
 - 3. कृषि
 - 4. औद्योगिक

Question ID : 264330116124
Status : Answered
Chosen Option : 4

Q.15 1 अगस्त 2022 से प्रभावी, भारतीय कृषि अनुसंधान परिषद (ICAR) के नए सचिव कौन हैं?

- Ans
- 1. त्रिलोचन महापात्रा
 - 2. संजय अग्रवाल
 - 3. हिमांशु पाठक
 - 4. अमिताभ कांत

Question ID : 264330115022
Status : Answered
Chosen Option : 1

Q.16 फसल उत्सव 'नबन्ना' _____ में मनाया जाता है।

- Ans
- 1. पश्चिम बंगाल
 - 2. हरियाणा
 - 3. छत्तीसगढ़
 - 4. झारखंड

Question ID : 264330106204
Status : Answered
Chosen Option : 1

Q.17 _____ का उपयोग पैसे की मांग और आपूर्ति को नियंत्रित करने के लिए किया जाता है।

- Ans
- 1. क्रेडिट नियंत्रण
 - 2. शेयर नियंत्रण
 - 3. इक्विटी नियंत्रण
 - 4. डेबिट नियंत्रण

Question ID : 264330115319
Status : Answered
Chosen Option : 4

Q.18 _____ में, ईस्ट इंडिया कंपनी ने इंग्लैंड की महारानी एलिज़ाबेथ प्रथम से एक चार्टर प्राप्त किया, जिसने इसे पूरब के साथ व्यापार करने का एकाधिकार मिल गया।

- Ans 1. 1615
 2. 1610
 3. 1624
 4. 1600

Question ID : 264330115700
Status : Not Answered
Chosen Option : --

Q.19 निम्नलिखित में से कौन-सा मार्शल नृत्य उत्तराखंड से संबंधित है?

- Ans 1. गटका
 2. थांग-ता
 3. कलारी पैट्ट
 4. छोलिया

Question ID : 26433071663
Status : Answered
Chosen Option : 2

Q.20 भारतीय संविधान का कौन-सा अनुच्छेद भारत के नियंत्रक-महालेखापरीक्षक के कर्तव्यों और शक्तियों से संबंधित है?

- Ans 1. अनुच्छेद 165
 2. अनुच्छेद 160
 3. अनुच्छेद 148
 4. अनुच्छेद 149

Question ID : 26433090674
Status : Not Answered
Chosen Option : --

Section : Part-C-Elementary Mathematics

Q.1 यदि किसी वस्तु का विक्रय मूल्य, क्रय मूल्य का $2\frac{1}{5}$ है, तो लाभ प्रतिशत होगा:

- Ans 1. 150%
 2. 120%
 3. 110%
 4. 100%

Question ID : 26433075385
Status : Answered
Chosen Option : 2

Q.2 एक कार सीधी सड़क पर दूरी का $\frac{1}{3}$ भाग 10 km/h की चाल से, अगली $\frac{1}{3}$ दूरी 20 km/h की चाल से और अंतिम $\frac{1}{3}$ दूरी 60 km/h की चाल से तय करती है। कार की औसत चाल ज्ञात कीजिए।

- Ans
- ✓ 1. 18 km/h
 - ✗ 2. 10 km/h
 - ✗ 3. 15 km/h
 - ✗ 4. 12 km/h

Question ID : 26433076044
Status : Answered
Chosen Option : 1

Q.3 12 cm के व्यास वाले अर्धगोले का आयतन ज्ञात कीजिए। ($\pi = \frac{22}{7}$)

- Ans
- ✗ 1. $\frac{528}{7} \text{ cm}^3$
 - ✓ 2. $\frac{3168}{7} \text{ cm}^3$
 - ✗ 3. $\frac{9703}{7} \text{ cm}^3$
 - ✗ 4. $\frac{1584}{7} \text{ cm}^3$

Question ID : 26433075746
Status : Answered
Chosen Option : 2

Q.4 एक आदमी कार खरीदना चाहता है और उसके लिए वह इंटरनेट पर कार की रेटिंग चेक करता है। वह आराम के लिए $\frac{9}{10}$ और पुनर्विक्रय मूल्य के लिए $\frac{8}{10}$ की रेटिंग पाता है। अपनी आवश्यकताओं के आधार पर, वह आराम के लिए 55% और पुनर्विक्रय मूल्य के लिए 45% का वेटेज देता है। कार की अंतिम रेटिंग की गणना करें।

- Ans
- ✓ 1. $\frac{8.55}{10}$
 - ✗ 2. $\frac{7.55}{10}$
 - ✗ 3. $\frac{7.5}{10}$
 - ✗ 4. $\frac{9.5}{10}$

Question ID : 26433075966
Status : Not Answered
Chosen Option : --

Q.5 एक बेईमान फुटकर विक्रेता अपनी वस्तुओं को 1 kg के स्थान पर 800 g वजन का उपयोग करके 18% के लाभ पर बेचता है। उसका वास्तविक लाभ प्रतिशत ज्ञात कीजिए।

- Ans
- 1. 44.5%
 - 2. 46.5%
 - 3. 45.5%
 - 4. 47.5%

Question ID : 26433075115
Status : Not Answered
Chosen Option : --

Q.6 धारा की दिशा में एक तैराक की चाल 23 km/h है। यदि धारा की विपरीत दिशा में तैराक की चाल 14 km/h है, तो धारा की चाल क्या होगी?

- Ans
- 1. 4.0 km/h
 - 2. 5.5 km/h
 - 3. 4.5 km/h
 - 4. 5.0 km/h

Question ID : 26433075695
Status : Answered
Chosen Option : 3

Q.7 0.12, 0.16 और 0.21 का चतुर्थानुपाती क्या है?

- Ans
- 1. 0.18
 - 2. 0.28
 - 3. 0.25
 - 4. 0.26

Question ID : 26433079868
Status : Not Answered
Chosen Option : --

Q.8 एक कक्षा में 75 लड़के और 45 लड़कियां हैं। यदि लड़कों का औसत वजन 60 kg और लड़कियों का औसत वजन 40 kg है, तो पूरी कक्षा का औसत वजन ज्ञात कीजिए।

- Ans
- 1. 50 kg
 - 2. 50.5 kg
 - 3. 52.5 kg
 - 4. 60.5 kg

Question ID : 26433083029
Status : Answered
Chosen Option : 3

Q.9 2800 और 756 का महत्तम समापवर्तक (HCF) ज्ञात कीजिए।

Ans 1. 28

2. 14

3. 56

4. 42

Question ID : 264330116632

Status : Answered

Chosen Option : 1

Q.10 रेत का ढेर एक लम्ब वृत्तीय शंकु के आकार का है। इसकी तिर्यक ऊंचाई 10 फुट और आधार व्यास 16 फुट है। ढेर बनाने वाली रेत का आयतन ज्ञात कीजिए। मान लीजिए $\pi = 3.14$.

Ans 1. 401.92 ft³

2. 301.96 ft³

3. 423.89 ft³

4. 441.72 ft³

Question ID : 26433075255

Status : Answered

Chosen Option : 1

Q.11 50 प्रतिशत और 40 प्रतिशत की क्रमिक दो छूटों के समकक्ष एकल छूट है:

Ans 1. 45 प्रतिशत

2. 70 प्रतिशत

3. 80 प्रतिशत

4. 90 प्रतिशत

Question ID : 264330116740

Status : Answered

Chosen Option : 2

Q.12 दिया गया है कि X की आय का 15% = Y की आय का 20% = Z की आय का 30% है। उनकी आय का योग ₹9,000 है। यदि Y अपनी आय से ₹2,200 खर्च करता है, तो Y की बचत कितनी होगी?

Ans 1. ₹500

2. ₹600

3. ₹800

4. ₹200

Question ID : 26433080010

Status : Not Answered

Chosen Option : --

Q.13 एक व्यक्ति की मासिक आय ₹15,400 थी और उसका मासिक व्यय ₹7,200 था। उसकी आय में 20% की वृद्धि हुई और उसके व्यय में 5% की वृद्धि हुई। उसकी बचत में प्रतिशत वृद्धि ज्ञात कीजिए।

- Ans
- 1. 33.17%
 - 2. 65.24%
 - 3. 60.31%
 - 4. 35.12%

Question ID : 26433080011
Status : Answered
Chosen Option : 1

Q.14 संख्या 20, 24 और 29 में से प्रत्येक में से एक निश्चित संख्या घटाई जाती है। घटाने के बाद, वे संख्याएँ समानुपाती होती हैं। घटाई गई संख्या क्या है?

- Ans
- 1. 3
 - 2. 4
 - 3. 6
 - 4. 5

Question ID : 26433075669
Status : Not Answered
Chosen Option : --

Q.15 Rs.280 के अंकित मूल्य वाले एक टूल पर 15% की छूट दी जाती है। गणना की त्रुटि के कारण दुकानदार ग्राहक को Rs.20 अतिरिक्त दे देता है। ग्राहक के लिए टूल पर प्रभावी छूट प्रतिशत क्या है?

- Ans
- 1. 28.1%
 - 2. 22.1%
 - 3. 31.1%
 - 4. 35%

Question ID : 26433071364
Status : Answered
Chosen Option : 2

Q.16 P और Q मिलकर किसी काम को 15 दिनों में कर सकते हैं। P, Q से तीन गुना कुशल है। P अकेला इस काम को कितने दिनों में कर सकता है?

- Ans
- 1. 20 दिन
 - 2. 24 दिन
 - 3. 15 दिन
 - 4. 30 दिन

Question ID : 264330116855
Status : Answered
Chosen Option : 1

Q.17 Rs.2,100 की राशि को 1 वर्ष के लिए 20% प्रति वर्ष की दर से निवेश किया जाता है, जिसके लिए ब्याज अर्ध-वार्षिक रूप से चक्रवृद्धि होता है। चक्रवृद्धि ब्याज ज्ञात कीजिए।

- Ans 1. Rs.441
 2. Rs.451
 3. Rs.421
 4. Rs.431

Question ID : 26433075735
Status : Answered
Chosen Option : 1

Q.18 निम्नलिखित व्यंजक को सरल कीजिए।

$$[7 \div 2 \times (8.35 + 1.3 + 2.42)]$$

- Ans 1. 53.462
 2. 51.352
 3. 60.324
 4. 42.245

Question ID : 26433074947
Status : Answered
Chosen Option : 4

Q.19 एक गाँव की जनसंख्या में पहले वर्ष 0.2% की वृद्धि होती है, दूसरे वर्ष में यह 0.4% बढ़ जाती है, और किसी बीमारी के कारण तीसरे वर्ष में यह 0.4% घट जाती है। 3 वर्ष बाद इसकी जनसंख्या क्या होगी, यदि पहले वर्ष की शुरुआत में यह 2000 थी (दशमलव के दो स्थानों तक पूर्णांकित)?

- Ans 1. 2010.12
 2. 2003.97
 3. 2005.45
 4. 2009.84

Question ID : 26433075391
Status : Answered
Chosen Option : 2

Q.20 A और B एक काम को क्रमशः 8 दिन और 16 दिन में पूरा कर सकते हैं। यदि B से शुरू करते हुए, A और B एकांतर दिनों में काम करते हैं, तो काम कितने दिन में पूरा होगा?

- Ans 1. 6
 2. 12
 3. 8
 4. 11

Question ID : 26433076280
Status : Answered
Chosen Option : 4

Q.1 The following sentence has been split into three segments. Identify the segment that contains a grammatical error. If you don't find any error, mark 'No error' as your answer.

Don't panic! / We won't leave you alone in trouble / when you travelling with us.

- Ans
- 1. Don't panic!
 - 2. when you travelling with us.
 - 3. We won't leave you alone in trouble
 - 4. No error

Question ID : 26433086382
Status : Answered
Chosen Option : 1

Q.2 Select the most appropriate option to fill in the blank.

Those songs were a great relief for Mohan during his long and _____ bus journey.

- Ans
- 1. tolerable
 - 2. plausible
 - 3. tiring
 - 4. reprimanding

Question ID : 26433074365
Status : Answered
Chosen Option : 1

Q.3 Select the most appropriate option to substitute the underlined segment in the given sentence to make it a meaningful sentence. If no substitution is required, select 'No substitution'.

The patients are shifted to another hospital that same evening as this hospital caught fire.

- Ans
- 1. were shifted to another hospital that same evening as this hospital caught fire.
 - 2. were shifted to another hospital that same evening as this hospital catch fire.
 - 3. were shifted at others hospital that same evening as this hospital caught fire.
 - 4. No substitution

Question ID : 26433092896
Status : Answered
Chosen Option : 1

Q.4 Substitute the underlined words with the option that is closest in meaning to it.

Do not pay attention to his words.

- Ans
- 1. Negate
 - 2. Ignore
 - 3. Accept
 - 4. Fight

Question ID : 26433088951
Status : Answered
Chosen Option : 2

Q.5 Select the most appropriate spelling that can correctly substitute the misspelt underlined segment in the given sentence.

His part in the affair was quite open and abboard.

- Ans
- 1. broad
 - 2. aboard
 - 3. aboveboard
 - 4. board

Question ID : 26433071935
Status : Answered
Chosen Option : 1

Q.6 Select the most appropriate synonym of the given word.

Entrap

- Ans
- 1. Trim
 - 2. Regulate
 - 3. Implicate
 - 4. Glorify

Question ID : 26433073466
Status : Not Answered
Chosen Option : --

Q.7 Select the INCORRECTLY spelt word.

- Ans
- 1. Telepathy
 - 2. Refridgeration
 - 3. Bewilderment
 - 4. Strangulate

Question ID : 26433073511
Status : Answered
Chosen Option : 4

Q.8 Select the most appropriate ANTONYM of the given word.
Local

- Ans
- 1. Foreign
 - 2. Torrid
 - 3. Familiar
 - 4. Frozen

Question ID : 26433066092
Status : Answered
Chosen Option : 1

Q.9 Select the most appropriate ANTONYM of the word given in the bracket to fill in the blank.

Do any of you _____ (object to) the decision?

- Ans
- 1. withstand to
 - 2. repine to
 - 3. approve of
 - 4. demonstrate

Question ID : 26433092867
Status : Answered
Chosen Option : 3

Q.10 Select the most appropriate synonym of the underlined word.

The children sat by the hearth to keep away the cold.

- Ans
- 1. convent
 - 2. oven
 - 3. fireside
 - 4. tandoor

Question ID : 26433084598
Status : Answered
Chosen Option : 3

Q.11 Select the most appropriate ANTONYM of the given word.

Lovely

- Ans
- 1. Pretty
 - 2. Attractive
 - 3. Hunky
 - 4. Lousy

Question ID : 26433072268
Status : Answered
Chosen Option : 4

Q.12 Select the most appropriate meaning of the given idiom.

Grease someone's palm

- Ans
- 1. To give a loan to someone
 - 2. To borrow money from an official
 - 3. To bribe one discreetly
 - 4. To lend money to an official

Question ID : 26433072673
Status : Answered
Chosen Option : 3

Q.13 Select the correct word for the blanks in the given sentence.

He has a _____ nature and the rainforest is a _____ of forest found on earth.

- Ans
- 1. caring
 - 2. rude
 - 3. kind
 - 4. type

Question ID : 26433060537
Status : Answered
Chosen Option : 3

Q.14 Select the most appropriate meaning of the given idiom.

A man of means

- Ans
- 1. Someone who is an iconic personality for youngsters
 - 2. Someone who has earned a lot of fame
 - 3. A well-mannered man with noble behaviour
 - 4. A wealthy man with lots of money and assets

Question ID : 26433073210
Status : Answered
Chosen Option : 1

Q.15 Select the most appropriate homonym to fill in the blank.

"Where is my _____?" cried the boatman.

- Ans
- 1. or
 - 2. oat
 - 3. o'er
 - 4. oar

Question ID : 26433084718
Status : Not Answered
Chosen Option : --

Comprehension:

In the following passage, some words have been deleted. Read the passage carefully and select the most appropriate option to fill in each blank.

Dandelion is a widely distributed weed of the daisy family, (1) _____ a rosette of leaves and large bright yellow flowers followed (2) _____ globular heads of seeds with downy tufts. I also reminded them that April is designated as the Month of (3) _____ Military Child. Not many would know that 15 April is the day when we wear purple, or so to say, we 'purple (4) _____' to express our solidarity and support (5) _____ the strength and sacrifices of our children, while their fathers are deployed at Siachen Glacier, deserts and on our borders.

SubQuestion No : 16

Q.16 Select the most appropriate option to fill in blank number 1.

- Ans
- 1. of
 - 2. within
 - 3. with
 - 4. on

Question ID : 26433072103

Status : Answered

Chosen Option : 4

Comprehension:

In the following passage, some words have been deleted. Read the passage carefully and select the most appropriate option to fill in each blank.

Dandelion is a widely distributed weed of the daisy family, (1) _____ a rosette of leaves and large bright yellow flowers followed (2) _____ globular heads of seeds with downy tufts. I also reminded them that April is designated as the Month of (3) _____ Military Child. Not many would know that 15 April is the day when we wear purple, or so to say, we 'purple (4) _____' to express our solidarity and support (5) _____ the strength and sacrifices of our children, while their fathers are deployed at Siachen Glacier, deserts and on our borders.

SubQuestion No : 17

Q.17 Select the most appropriate option to fill in blank number 2.

- Ans
- 1. by
 - 2. along
 - 3. since
 - 4. with

Question ID : 26433072104

Status : Answered

Chosen Option : 1

Comprehension:

In the following passage, some words have been deleted. Read the passage carefully and select the most appropriate option to fill in each blank.

Dandelion is a widely distributed weed of the daisy family, (1) _____ a rosette of leaves and large bright yellow flowers followed (2) _____ globular heads of seeds with downy tufts. I also reminded them that April is designated as the Month of (3) _____ Military Child. Not many would know that 15 April is the day when we wear purple, or so to say, we 'purple (4) _____' to express our solidarity and support (5) _____ the strength and sacrifices of our children, while their fathers are deployed at Siachen Glacier, deserts and on our borders.

SubQuestion No : 18

Q.18 Select the most appropriate option to fill in blank number 3.

- Ans 1. an
 2. the
 3. Zero article
 4. a

Question ID : 26433072105

Status : Answered

Chosen Option : 4

Comprehension:

In the following passage, some words have been deleted. Read the passage carefully and select the most appropriate option to fill in each blank.

Dandelion is a widely distributed weed of the daisy family, (1) _____ a rosette of leaves and large bright yellow flowers followed (2) _____ globular heads of seeds with downy tufts. I also reminded them that April is designated as the Month of (3) _____ Military Child. Not many would know that 15 April is the day when we wear purple, or so to say, we 'purple (4) _____' to express our solidarity and support (5) _____ the strength and sacrifices of our children, while their fathers are deployed at Siachen Glacier, deserts and on our borders.

SubQuestion No : 19

Q.19 Select the most appropriate option to fill in blank number 4.

- Ans 1. by
 2. onto
 3. up
 4. for

Question ID : 26433072106

Status : Answered

Chosen Option : 3

Comprehension:

In the following passage, some words have been deleted. Read the passage carefully and select the most appropriate option to fill in each blank.

Dandelion is a widely distributed weed of the daisy family, (1) _____ a rosette of leaves and large bright yellow flowers followed (2) _____ globular heads of seeds with downy tufts. I also reminded them that April is designated as the Month of (3) _____ Military Child. Not many would know that 15 April is the day when we wear purple, or so to say, we 'purple (4) _____' to express our solidarity and support (5) _____ the strength and sacrifices of our children, while their fathers are deployed at Siachen Glacier, deserts and on our borders.

SubQuestion No : 20

Q.20 Select the most appropriate option to fill in blank number 5.

- Ans 1. in
 2. for
 3. through
 4. from

Question ID : 26433072107
Status : Not Answered
Chosen Option : --

Section : Part-D-Hindi

Q.1 वाक्य में रेखांकित अंश के लिए उचित मुहावरा दिए गए विकल्पों में से चुनिए-
उसे कोई क्या समझाए, वह तो महामूर्ख है।

- Ans 1. काला नाग
 2. काठ का उल्लू
 3. काठ मार जाना
 4. काजल की कोठरी

Question ID : 26433062303
Status : Not Answered
Chosen Option : --

Q.2 निम्नलिखित वाक्य में रेखांकित एकार्थी शब्दों का सही अर्थ-युग्म क्या होगा?
द्यूत प्रथा का दुष्परिणाम पांडवों के साथ उनकी माता प्रथा को भी भुगतना पड़ा।

- Ans 1. परंपरा-कुंती
 2. परंपरा-अलग
 3. सहानुभूति-विश्वास
 4. धारणा-परंपरा

Question ID : 26433091332
Status : Not Answered
Chosen Option : --

Q.3 'पारदर्शक' शब्द के लिए उचित वाक्यांश है-

- Ans
- 1. जो कोई नाटक देखे
 - 2. जिसे देखा जा सके
 - 3. जिसके पार देखा जा सके
 - 4. जिसके पार देखा न जा सके

Question ID : 26433065874
Status : Not Answered
Chosen Option : --

Q.4 जल की अथाह राशि को _____ कहते हैं।
'समुद्र' के पर्याय से उपरोक्त वाक्य पूर्ण करें।

- Ans
- 1. कालिंदी
 - 2. जलधि
 - 3. सरिता
 - 4. पयोधर

Question ID : 26433084989
Status : Not Answered
Chosen Option : --

Q.5 निम्नलिखित विकल्पों में से किस एक वाक्य में विशेषण का उचित प्रयोग किया गया है?

- Ans
- 1. वह जाता है।
 - 2. वह मीठा फल है।
 - 3. वह खाता है।
 - 4. वह पढ़ता है।

Question ID : 26433062960
Status : Not Answered
Chosen Option : --

Q.6 निम्नलिखित विकल्पों में क्रिया के प्रेरणार्थक रूप का गलत प्रयोग किसमें हुआ है?

- Ans
- 1. बिठाना - बिठवाना
 - 2. टकारना - टकारवाना
 - 3. खिलाना - खिलवाना
 - 4. दिलाना - दिलवाना

Question ID : 26433063047
Status : Not Answered
Chosen Option : --

Q.7 विकल्पों में दिए गए शब्दों में से उचित शब्द से निम्न वाक्य पूर्ण करें।
हमें अपने _____ की स्वयं देखभाल करनी चाहिए।

- Ans 1. सामान्य
 2. सामान
 3. समान
 4. सारांश

Question ID : 26433062908
Status : Not Answered
Chosen Option : --

Q.8 निम्नलिखित वाक्यांश के लिए उपयुक्त सार्थक शब्द क्या होगा?
जिसमें धैर्य की कमी हो

- Ans 1. अधिक
 2. धीर
 3. अविश्वास
 4. अधीर

Question ID : 26433065754
Status : Not Answered
Chosen Option : --

Q.9 निम्न वाक्य के रिक्त स्थान पर रेखांकित शब्द का उपयुक्त विलोम शब्द क्या होगा?
सक्रिय व्यक्ति जीवन में नाम कमाता है, लेकिन _____ असफल हो जाता है।

- Ans 1. जागरूक
 2. निष्क्रिय
 3. कर्मठ
 4. तंदरुस्त

Question ID : 26433066907
Status : Not Answered
Chosen Option : --

Q.10 निम्नलिखित वाक्य में रेखांकित खंड के स्थान पर प्रयुक्त होने वाले सबसे उपयुक्त विकल्प का चयन कीजिए।
उसने अपने दोस्त को जन्मदिन पर श्रद्धांजलि दी।

- Ans 1. तरक्की
 2. बधाई
 3. आयु
 4. धमकी

Question ID : 26433079570
Status : Not Answered
Chosen Option : --

Q.11 'गेरु' एक संज्ञा शब्द है।
इसके बदले कौन – सा प्रत्यय युक्त शब्द उपयुक्त होगा?

- Ans
- 1. गजल
 - 2. गेरुआ
 - 3. ममेरा
 - 4. गरज

Question ID : 26433062690
Status : Not Answered
Chosen Option : --

Q.12 निम्न विकल्पों में से ऐसा वाक्य चुनिए जिसमें अशुद्ध वर्तनी वाला पद न हो।

- Ans
- 1. दक्षिण के लोग कॉफी अधिक पीते हैं।
 - 2. यह कथा अवर्णनिय है।
 - 3. वह स्टेसन पर पहुँच गया।
 - 4. माली ने लकड़ि और घाश काट ली।

Question ID : 26433063069
Status : Not Answered
Chosen Option : --

Q.13 निम्नलिखित में से किस मुहावरे का अर्थ है 'अपमान सहन करना'?

- Ans
- 1. जहर का घूंट पीना
 - 2. छाती पर मूंग दलना
 - 3. छाती पर सांप लोटना
 - 4. दिल भर आना

Question ID : 26433066809
Status : Not Answered
Chosen Option : --

Q.14 वर्तनी की दृष्टि से अशुद्ध वाक्य का चयन कीजिए-

- Ans
- 1. जब सब नश्ट हो गया, तब सारी चिंता दूर हुई।
 - 2. जहाँ जाओगे भाग्य तुम्हारा साथ देगा।
 - 3. उसकी असावधानी के कारण हम हार गए।
 - 4. जो कुछ याद था वह भी भूल गया।

Question ID : 26433062891
Status : Not Answered
Chosen Option : --

Q.15 निम्नलिखित विकल्पों में से 'जो सर्व साधारण के सामने न रखा गया हो' वाक्यांश के लिए एक सार्थक शब्द क्या होगा ?

- Ans 1. अप्रकाशित
 2. अल्पज्ञ
 3. अवध्य
 4. सर्वव्यापी

Question ID : 26433062474
Status : Not Answered
Chosen Option : --

Comprehension:

निम्नलिखित गद्यांश में कुछ शब्दों को हटा दिया गया है। दिए गए विकल्पों की सहायता से रिक्त स्थानों की पूर्ति कीजिए। प्रत्येक संख्या के लिए सबसे उपयुक्त विकल्प का चयन कीजिए।
भारतवर्ष के उत्तर में 1. _____ तथा शेष तीनों 2. _____ में समुद्र है। बीच में जंगल, मरुस्थल, छोटे-बड़े राज्य, लहलहाते खेत और सुंदर नगर हैं। इन सब की सुरक्षा का भार 3. _____ पर है। पुलिस विभिन्न राज्यों में तथा सेना बाहरी क्षेत्र में अपने 4. _____ को निभाते हुए देश की रक्षा करती है। पूरे विश्व में भारतीय सेना को 5. _____ माना जाता है।

SubQuestion No : 16

Q.16 रिक्त स्थान 1 की पूर्ति के लिए सबसे उपयुक्त विकल्प का चयन कीजिए।

- Ans 1. समुद्र
 2. हिमालय
 3. राज्य
 4. सैनिक

Question ID : 264330110987
Status : Not Answered
Chosen Option : --

Comprehension:

निम्नलिखित गद्यांश में कुछ शब्दों को हटा दिया गया है। दिए गए विकल्पों की सहायता से रिक्त स्थानों की पूर्ति कीजिए। प्रत्येक संख्या के लिए सबसे उपयुक्त विकल्प का चयन कीजिए।
भारतवर्ष के उत्तर में 1. _____ तथा शेष तीनों 2. _____ में समुद्र है। बीच में जंगल, मरुस्थल, छोटे-बड़े राज्य, लहलहाते खेत और सुंदर नगर हैं। इन सब की सुरक्षा का भार 3. _____ पर है। पुलिस विभिन्न राज्यों में तथा सेना बाहरी क्षेत्र में अपने 4. _____ को निभाते हुए देश की रक्षा करती है। पूरे विश्व में भारतीय सेना को 5. _____ माना जाता है।

SubQuestion No : 17

Q.17 रिक्त स्थान 2 की पूर्ति के लिए सबसे उपयुक्त विकल्प का चयन कीजिए।

- Ans 1. देशों
 2. समुद्रों
 3. दिशाओं
 4. अर्थों

Question ID : 264330110988
Status : Not Answered
Chosen Option : --

Comprehension:

निम्नलिखित गद्यांश में कुछ शब्दों को हटा दिया गया है। दिए गए विकल्पों की सहायता से रिक्त स्थानों की पूर्ति कीजिए। प्रत्येक संख्या के लिए सबसे उपयुक्त विकल्प का चयन कीजिए।
भारतवर्ष के उत्तर में 1. _____ तथा शेष तीनों 2. _____ में समुद्र है। बीच में जंगल, मरुस्थल, छोटे-बड़े राज्य, लहलहाते खेत और सुंदर नगर हैं। इन सब की सुरक्षा का भार 3. _____ पर है। पुलिस विभिन्न राज्यों में तथा सेना बाहरी क्षेत्र में अपने 4. _____ को निभाते हुए देश की रक्षा करती है। पूरे विश्व में भारतीय सेना को 5. _____ माना जाता है।

SubQuestion No : 18

Q.18 रिक्त स्थान 3 की पूर्ति के लिए सबसे उपयुक्त विकल्प का चयन कीजिए।

- Ans 1. भारतीय
 2. सेना
 3. युवाओं
 4. जनता

Question ID : 264330110989

Status : Not Answered

Chosen Option : --

Comprehension:

निम्नलिखित गद्यांश में कुछ शब्दों को हटा दिया गया है। दिए गए विकल्पों की सहायता से रिक्त स्थानों की पूर्ति कीजिए। प्रत्येक संख्या के लिए सबसे उपयुक्त विकल्प का चयन कीजिए।
भारतवर्ष के उत्तर में 1. _____ तथा शेष तीनों 2. _____ में समुद्र है। बीच में जंगल, मरुस्थल, छोटे-बड़े राज्य, लहलहाते खेत और सुंदर नगर हैं। इन सब की सुरक्षा का भार 3. _____ पर है। पुलिस विभिन्न राज्यों में तथा सेना बाहरी क्षेत्र में अपने 4. _____ को निभाते हुए देश की रक्षा करती है। पूरे विश्व में भारतीय सेना को 5. _____ माना जाता है।

SubQuestion No : 19

Q.19 रिक्त स्थान 4 की पूर्ति के लिए सबसे उपयुक्त विकल्प का चयन कीजिए।

- Ans 1. प्रेरणा
 2. स्वार्थ
 3. कर्तव्य
 4. युद्ध

Question ID : 264330110990

Status : Not Answered

Chosen Option : --

Comprehension:

निम्नलिखित गद्यांश में कुछ शब्दों को हटा दिया गया है। दिए गए विकल्पों की सहायता से रिक्त स्थानों की पूर्ति कीजिए। प्रत्येक संख्या के लिए सबसे उपयुक्त विकल्प का चयन कीजिए।

भारतवर्ष के उत्तर में 1. _____ तथा शेष तीनों 2. _____ में समुद्र है। बीच में जंगल, मरुस्थल, छोटे-बड़े राज्य, लहलहाते खेत और सुंदर नगर हैं। इन सब की सुरक्षा का भार 3. _____ पर है। पुलिस विभिन्न राज्यों में तथा सेना बाहरी क्षेत्र में अपने 4. _____ को निभाते हुए देश की रक्षा करती है। पूरे विश्व में भारतीय सेना को 5. _____ माना जाता है।

SubQuestion No : 20

Q.20 रिक्त स्थान 5 की पूर्ति के लिए सबसे उपयुक्त विकल्प का चयन कीजिए।

- Ans**
- 1. श्रेष्ठ
 - 2. सैनिक
 - 3. अकादमी
 - 4. आकर्षक

Question ID : 264330110991

Status : Not Answered

Chosen Option : --

KD Job Updates

Constable GD in CAPFs SSF Rifleman GD in Assam Rifles and Sepoy in NCB Examination 2022

Roll Number	KD Job Updates
Candidate Name	KD Job Updates
Venue Name	iON Digital Zone iDZ 2 Hathipur
Exam Date	30/01/2023
Exam Time	11:45 AM - 12:45 PM
Subject	Constable GD Examination 2022

Section : Part-A-General Intelligence and Reasoning

Q.1 किस विकल्प में निम्नलिखित शब्दों का वह क्रम दिया गया है, जिस क्रम में वे अंग्रेजी शब्दकोश में आते हैं।

- 1 Flower
- 2 Flow
- 3 Floor
- 4 Flour
- 5 Flame

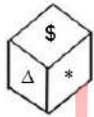
- Ans
- 1. 2,3,4,1,5
 - 2. 5,3,1,2,4
 - 3. 5,3,4,2,1
 - 4. 5,4,3,2,1

Question ID : 26433069267

Status : Answered

Chosen Option : 3

Q.2 एक ही पासे की दो अलग-अलग स्थितियों को दर्शाया गया है जिस पर \$, Δ, ¥, Ω, O और * चिह्न बने हैं। 'O' दर्शाने वाले फलक के विपरीत फलक पर स्थित चिह्न ज्ञात कीजिए।



- Ans
- 1. *
 - 2. Ω
 - 3. \$
 - 4. ¥

Question ID : 26433085508

Status : Answered

Chosen Option : 1

Q.3 प्रीती विभिन्न रंगों के टेडी बियरों को अपने बेडरूम में दो समानांतर पंक्तियों में एक दूसरे के सामने इस प्रकार व्यवस्थित करती है, कि प्रत्येक पंक्ति में चार टेडी बियर होते हैं। नारंगी, पीला, ग्रे और भूरे रंग के टेडी पंक्ति 1 में उत्तर की ओर मुख करके रखे गए हैं, जबकि लाल, सफेद, काले और गुलाबी रंग के टेडी पंक्ति 2 में दक्षिण की ओर मुख करके रखे गए हैं। नारंगी रंग का टेडी, ग्रे रंग के टेडी के ठीक बगल में है। गुलाबी रंग के टेडी का मुख, नारंगी रंग के टेडी की ओर नहीं है। सफेद रंग के टेडी का मुख उस टेडी की ओर है, जो ग्रे रंग के टेडी के दाईं ओर दूसरे स्थान पर है। काले रंग का टेडी, गुलाबी रंग के टेडी के दाईं ओर दूसरे स्थान पर है। भूरे रंग का टेडी किसी भी किनारे पर नहीं है। नारंगी रंग का टेडी किसी भी अंतिम सिरे पर नहीं है। ग्रे रंग के टेडी का मुख, लाल रंग के टेडी की ओर है। लाल और सफेद रंग के टेडी के बीच कितने टेडी हैं?

- Ans 1. दो
 2. एक
 3. तीन
 4. शून्य

Question ID : 26433079066
Status : Not Answered
Chosen Option : --

Q.4 कौन-सा अक्षर-समूह दी गई शृंखला में प्रश्नचिह्न (?) के स्थान पर आकर शृंखला को पूर्ण करेगा?
GYCQ, ICZR, ?, MKTT, OOQU

- Ans 1. RRKS
 2. KRRS
 3. QDRS
 4. KGWS

Question ID : 26433079427
Status : Answered
Chosen Option : 4

Q.5 तीन कथनों के बाद तीन निष्कर्ष I, II और III दिए गए हैं। कथनों को सत्य मानते हुए, भले ही वे सामान्य रूप से ज्ञात तथ्यों से भिन्न प्रतीत होते हों, निर्णय लीजिए कि कौन-सा/से निष्कर्ष कथनों का तार्किक रूप से अनुसरण करता/करते है/हैं।

कथन:
कुछ डॉक्टर बाघ हैं।
सभी बाघ छाते हैं।
कुछ छाते बस हैं।
निष्कर्ष:
I. कुछ डॉक्टर छाते हैं।
II. कुछ बाघ छाते हैं।
III. कुछ बसें छाते हैं।

- Ans 1. निष्कर्ष II और III दोनों अनुसरण करते हैं।
 2. सभी निष्कर्ष अनुसरण करते हैं।
 3. निष्कर्ष I और II दोनों अनुसरण करते हैं।
 4. निष्कर्ष I और III दोनों अनुसरण करते हैं।

Question ID : 26433081795
Status : Answered
Chosen Option : 2

Q.6 उस विकल्प का चयन करें जो पांचवें अक्षर-समूह से उसी प्रकार संबंधित है जिस प्रकार दूसरा अक्षर-समूह पहले अक्षर-समूह से संबंधित है और चौथा अक्षर-समूह तीसरे अक्षर-समूह से संबंधित है।
GKP : FHK :: BJS : AGN :: DIX : ?

Ans 1. EHS

2. CHS

3. CFS

4. ELS

Question ID : 26433057748

Status : Answered

Chosen Option : 3

Q.7 उस समुच्चय का चयन करें, जिसकी संख्याओं के बीच ठीक वही संबंध है, जो संबंध निम्नांकित समुच्चयों की संख्याओं में हैं।

(नोट: संख्याओं को उसके घटक अंकों में विभाजित किए बिना, पूर्ण संख्याओं पर ही गणितीय संक्रियाएँ की जानी चाहिए। जैसे 13 - मान लीजिए 13 पर गणितीय संक्रियाएँ जैसे कि 13 में जोड़ना/घटाना/गुणा करना आदि किया जा सकता है। 13 को 1 और 3 में तोड़कर और फिर 1 और 3 पर गणितीय संक्रियाएँ करने की अनुमति नहीं है।)

(17, 153, 81)

(19, 171, 81)

Ans 1. (14, 126, 90)

2. (11, 99, 72)

3. (15, 135, 81)

4. (16, 144, 75)

Question ID : 26433076549

Status : Answered

Chosen Option : 3

Q.8 X - Y का अर्थ है 'X, Y का भाई है'
'X # Y' का अर्थ है 'X, Y की पुत्री है'
'X * Y' का अर्थ है 'X, Y का पिता है'
'X \$ Y' का अर्थ है 'X, Y की पत्नी है'
यदि 'A \$ B - D * C' है, तो A, D से कैसे संबंधित है?

Ans 1. A, D का पुत्र है

2. A, D की पुत्री है

3. A, D की भाभी है

4. A, D की बहन है

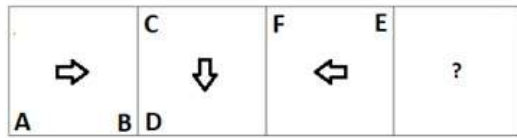
Question ID : 26433087128

Status : Answered

Chosen Option : 3

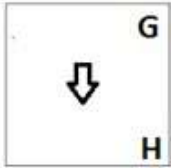
Q.9 दिए गए विकल्पों में से उस आकृति का चयन कीजिए जो निम्नलिखित श्रृंखला में

प्रश्नवाचक चिह्न (?) को प्रतिस्थापित कर सकती है।

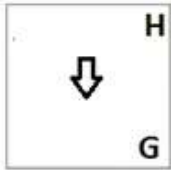


Ans

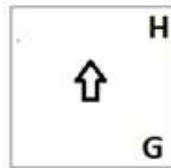
✗ 1.



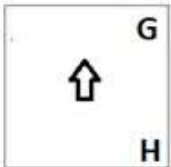
✗ 2.



✓ 3.



✗ 4.



Question ID : 26433074725

Status : Answered

Chosen Option : 3

Q.10 दर्पण को चित्र में दिखाए अनुसार MN पर रखे जाने पर दी गई आकृति के सही

दर्पण प्रतिबिंब का चयन करें।



Ans

✓ 1. k u n 3 1 b d 5 k

✗ 2. k n u 3 1 5 b d k

✗ 3. k 5 b d 1 3 n u k

✗ 4. k n u 3 1 b d k

Question ID : 26433082334

Status : Answered

Chosen Option : 1

Q.11 निम्नलिखित में से कौन-सी संख्या दी गई श्रृंखला में प्रश्न-चिह्न (?) के स्थान पर आएगी?
9, ?, 33, 50, 69, 92, 121

Ans

✗ 1. 14

✗ 2. 22

✗ 3. 16

✓ 4. 20

Question ID : 26433090059

Status : Answered

Chosen Option : 2

Q.12 उस विकल्प का चयन करें जो तीसरे शब्द से उसी प्रकार संबंधित है जिस प्रकार दूसरा शब्द पहले शब्द से संबंधित है।

(शब्दों को अर्थपूर्ण शब्दों के रूप में मानना है, और उन्हें शब्द में अक्षरों/व्यंजनों/स्वरों की संख्या के आधार पर एक-दूसरे से संबंधित नहीं करना है।)

गंध : नाक :: रंग : ?

Ans

✗ 1. कान

✗ 2. इंद्रधनुष

✗ 3. पेंट

✓ 4. आँखें

Question ID : 26433087195

Status : Answered

Chosen Option : 4

Q.13 नीचे दिए गए समीकरण को गणितीय रूप से सही बनाने के लिए किन संख्याओं(अंकों को नहीं) को परस्पर बदलना चाहिए?
 $216 \div 9 \times 16 + 24 - 27 = 126$

- Ans
- 1. 27 और 9
 - 2. 24 और 27
 - 3. 9 और 24
 - 4. 16 और 9

Question ID : 264330117564
Status : Answered
Chosen Option : 3

Q.14 निम्नलिखित में से कौन-सा अक्षर-समूह नीचे दी गई अक्षर-समूह श्रृंखला में प्रश्न-चिह्न (?) के स्थान पर आकर श्रृंखला को पूर्ण करेगा?
MNA, WDB, EVA, KPB, OLA, ?

- Ans
- 1. QKA
 - 2. QJA
 - 3. QJB
 - 4. QKB

Question ID : 26433067281
Status : Answered
Chosen Option : 3

Q.15 नीचे दिए गए समीकरण को गणितीय रूप से सही बनाने के लिए किन दो गणितीय चिह्नों को परस्पर बदलना चाहिए?
 $8 + 32 \div 16 \times 11 - 5 = 22$

- Ans
- 1. \times और $+$
 - 2. $+$ और \times
 - 3. $-$ और $+$
 - 4. \div और $-$

Question ID : 264330114179
Status : Answered
Chosen Option : 2

Q.16 एक निश्चित कूट भाषा में, 'LAST' को 'NCQR' लिखा जाता है और 'CAKE' को 'ECIC' लिखा जाता है। उसी भाषा में 'JUMP' कैसे लिखा जाएगा?

- Ans
- 1. WLNK
 - 2. LWNK
 - 3. LWKN
 - 4. WLKN

Question ID : 26433068893
Status : Answered
Chosen Option : 3

Q.17 सात व्यक्ति S, F, A, G, D, H और T एक सीधी पंक्ति में उत्तर की ओर मुख करके बैठते हैं। G के दाईं ओर केवल दो व्यक्ति बैठते हैं। F, A के दाईं ओर तीसरे स्थान पर है। S, D और A के ठीक बगल में है। G, F और H के ठीक बगल में है। पंक्ति के दाएं सिरे पर कौन बैठा है?

Ans 1. H

2. A

3. T

4. G

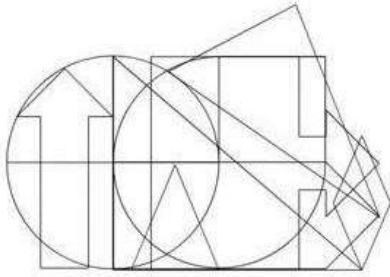
Question ID : 26433092597

Status : Answered

Chosen Option : 3

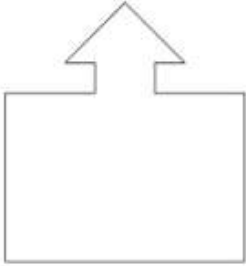
KD Job Updates

Q.18 उस विकल्प आकृति का चयन करें जो नीचे दी गई आकृति में अंतर्निहित है।
(आकृति घुमाने की अनुमति नहीं है)

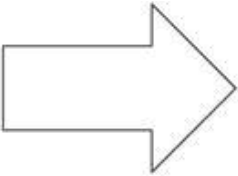


Ans

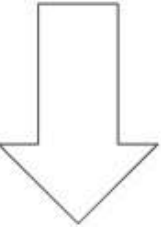
✗ 1.



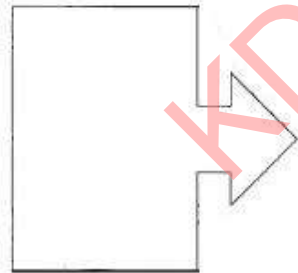
✗ 2.



✗ 3.



✓ 4.



Question ID : 26433085747
Status : Answered
Chosen Option : 4

Q.19 एक निश्चित कूट भाषा में 'TEA' को 26 के रूप में और 'DANCE' को 27 के रूप में कूटबद्ध किया जाता है। उस भाषा में 'CROWN' को कैसे कूटबद्ध किया जाएगा?

- Ans
- 1. 54
 - 2. 47
 - 3. 73
 - 4. 68

Question ID : 26433074518
Status : Answered
Chosen Option : 3

Q.20 निम्नलिखित में से कौन-सी संख्याएं दी गई श्रृंखला में प्रश्न-चिह्न (?) के स्थान पर आएंगी?
10, 20, 15, ?, ?, 30, 25, 35, 30

- Ans
- 1. 20, 20
 - 2. 35, 30
 - 3. 25, 20
 - 4. 25, 25

Question ID : 26433069045
Status : Answered
Chosen Option : 3

Section : Part-B-General Knowledge and General awareness

Q.1 दिए गए विकल्पों में से, सामाजिक न्याय एवं अधिकारिता मंत्रालय _____ का संरक्षण नहीं करता है।

- Ans
- 1. ट्रांसजेंडर व्यक्तियों के लिए राष्ट्रीय पोर्टल
 - 2. ई-अनुदान
 - 3. ई-श्रम
 - 4. नशा मुक्त भारत अभियान

Question ID : 264330116193
Status : Answered
Chosen Option : 4

Q.2 यह दुनिया भर के सभी प्रकार के कंप्यूटरों को जोड़ता है। यहाँ किस संचार तकनीक की बात की जा रही है?

- Ans
- 1. पोस्ट कार्ड
 - 2. इंटरनेट
 - 3. पेजर
 - 4. केबल

Question ID : 264330115598
Status : Answered
Chosen Option : 2

Q.3 निम्नलिखित में से अयस्क-धातु की कौन सी जोड़ी गलत है?

- Ans
- 1. गैलिना - सीसा
 - 2. बोर्नाइट - कॉपर
 - 3. सिनेबार - निकेल
 - 4. मैग्नेटाइट - लोहा

Question ID : 264330115146
Status : Answered
Chosen Option : 2

Q.4 महात्मा गांधी जनवरी _____ में भारतीय लौटे।

- Ans
- 1. 1919
 - 2. 1915
 - 3. 1911
 - 4. 1917

Question ID : 26433089898
Status : Answered
Chosen Option : 2

Q.5 _____ को काम और अवकाश गतिविधियों में कुशलतापूर्वक और प्रभावी ढंग से कार्य करने, स्वस्थ रहने, बीमारियों का प्रतिरोध करने और आपातकालीन स्थितियों से निपटने के लिए शरीर की क्षमता के रूप में परिभाषित किया गया है।

- Ans
- 1. शारीरिक फिटनेस
 - 2. मानसिक फिटनेस
 - 3. एरोबिक फिटनेस
 - 4. मांसपेशीय मजबूती

Question ID : 264330115230
Status : Answered
Chosen Option : 1

Q.6 नवंबर 2022 में, निम्नलिखित में से किस स्मारक को भारत के प्रधानमंत्री द्वारा राष्ट्रीय स्मारक घोषित किया गया?

- Ans
- 1. गोल गुम्बज
 - 2. मूसा बाग
 - 3. मानगढ़ धाम
 - 4. रुक्मिणी मंदिर

Question ID : 264330115054
Status : Not Answered
Chosen Option : --

Q.7 चौथी पंचवर्षीय योजना के दौरान _____ युद्ध हुआ था।

- Ans
- 1. भारत-पाकिस्तान
 - 2. भारत-चीन
 - 3. प्रथम विश्व युद्ध
 - 4. द्वितीय विश्व युद्ध

Question ID : 264330115364
Status : Answered
Chosen Option : 1

Q.8 ई कृष्ण अय्यर किस शास्त्रीय नृत्य शैली से संबंधित थे?

- Ans
- 1. कथक
 - 2. सत्रीया
 - 3. ओडिसी
 - 4. भरतनाट्यम

Question ID : 26433072927
Status : Not Answered
Chosen Option : --

Q.9 संसद के निचले सदन के सदस्यों की अधिकतम संख्या कितनी है?

- Ans
- 1. 500
 - 2. 250
 - 3. 590
 - 4. 552

Question ID : 26433089969
Status : Answered
Chosen Option : 4

Q.10 भारत में, औद्योगिक नीति संकल्प पहली बार वर्ष _____ में पारित किया गया था।

- Ans
- 1. 1946
 - 2. 1947
 - 3. 1948
 - 4. 1949

Question ID : 264330116142
Status : Not Answered
Chosen Option : --

Q.11 राष्ट्रीय आय = C (घरेलू खपत) + G (_____) + I (निवेश व्यय) + NX (शुद्ध निर्यात)

- Ans
- 1. व्यक्तिगत व्यय
 - 2. सरकारी व्यय
 - 3. घरेलू व्यय
 - 4. गैर सरकारी व्यय

Question ID : 264330115351
Status : Answered
Chosen Option : 4

Q.12 दिसंबर 2022 तक की स्थिति के अनुसार, निम्नलिखित में से कौन भारत के पश्चिम बंगाल राज्य के राज्यपाल हैं?

- Ans 1. सीवी आनंद बोस
 2. जगदीप धनखड़
 3. अशोक गहलोत
 4. ममता बनर्जी

Question ID : 264330114898
Status : Answered
Chosen Option : 1

Q.13 निम्नलिखित में से कौन सी नदी सिंधु नदी की सबसे बड़ी सहायक नदी है?

- Ans 1. सतलुज नदी
 2. चिनाब नदी
 3. रावी नदी
 4. श्योक नदी

Question ID : 26433089665
Status : Not Answered
Chosen Option : --

Q.14 रणजी ट्रॉफी निम्नलिखित में से किस खेल से संबंधित है?

- Ans 1. बेसबॉल
 2. क्रिकेट
 3. टेनिस
 4. फुटबॉल

Question ID : 264330116261
Status : Answered
Chosen Option : 2

Q.15 बथुकम्मा, जोकि एक फूल उत्सव है, निम्नलिखित में से किस राज्य में मनाया जाता है?

- Ans 1. तमिलनाडु
 2. गुजरात
 3. तेलंगाना
 4. राजस्थान

Question ID : 264330115084
Status : Answered
Chosen Option : 1

Q.16 किस संविधान संशोधन अधिनियम के पारित होने के बाद अब यह मौलिक अधिकार है?

- Ans
- 1. 1952 में 11वां संशोधन
 - 2. 1996 में 102वां संशोधन
 - 3. 1978 में 44वां संशोधन
 - 4. 1952 में 44वां संशोधन

Question ID : 26433089911
Status : Answered
Chosen Option : 3

Q.17 2011 की जनगणना के अनुसार, किस भारतीय राज्य की साक्षरता दर सबसे कम है?

- Ans
- 1. बिहार
 - 2. झारखंड
 - 3. महाराष्ट्र
 - 4. उत्तर प्रदेश

Question ID : 264330116056
Status : Answered
Chosen Option : 1

Q.18 2020 ग्रीष्मकालीन ओलंपिक में कितने देशों (EOR और ROC टीमों सहित) ने भाग लिया?

- Ans
- 1. 209
 - 2. 210
 - 3. 206
 - 4. 203

Question ID : 264330115913
Status : Not Answered
Chosen Option : --

Q.19 निम्नलिखित में से हड़प्पा सभ्यता की कौन सी धातु वर्तमान राजस्थान और ओमान से प्राप्त हुई है?

- Ans
- 1. चाँदी
 - 2. ताँबा
 - 3. सोना
 - 4. टिन

Question ID : 264330115444
Status : Answered
Chosen Option : 2

Q.20 निम्नलिखित में से किसने केरल संगीत नाटक अकादमी फेलोशिप (1974) प्राप्त की थी?

- Ans
- 1. महबूब सुभानी
 - 2. कलामंडलम कल्याणिकुट्टी अम्मा
 - 3. शोभना नारायण
 - 4. अनुराधा पाण्डेय

Question ID : 264330115847
Status : Not Answered
Chosen Option : --

Section : Part-C-Elementary Mathematics

Q.1 एक दुकानदार अपने माल पर क्रय मूल्य से 12% अधिक मूल्य अंकित करता है और 6% की छूट देता है। वह कितना लाभ प्रतिशत अर्जित करता है?

- Ans
- 1. 6%
 - 2. 5.28%
 - 3. 5.82%
 - 4. 5.5%

Question ID : 26433075187
Status : Answered
Chosen Option : 2

Q.2 यदि किसी गोले का पृष्ठीय क्षेत्रफल 5544 cm^2 है, तो इसका आयतन ज्ञात कीजिए।

- Ans
- 1. $38,808 \text{ cm}^3$
 - 2. $37,800 \text{ cm}^3$
 - 3. $36,864 \text{ cm}^3$
 - 4. $38,809 \text{ cm}^3$

Question ID : 26433066325
Status : Answered
Chosen Option : 1

Q.3 अनय 10 दिनों में कार्य का $\frac{5}{11}$ वां भाग करता है और रोहन उसी कार्य का $\frac{5}{6}$ वां भाग 15 दिनों में करता है। उन्होंने एक साथ काम करना शुरू किया लेकिन रोहन ने काम पूरा होने से 5 दिन पहले काम छोड़ दिया और अनय ने काम पूरा कर दिया। दिनों की संख्या ज्ञात करें जिसके बाद रोहन ने काम छोड़ दिया।

- Ans
- 1. $\frac{186}{9}$ दिन
 - 2. $\frac{140}{9}$ दिन
 - 3. $\frac{153}{20}$ दिन
 - 4. $\frac{177}{20}$ दिन

Question ID : 264330116877
Status : Not Answered
Chosen Option : --

Q.4 एक हिल स्टेशन ट्रेन में सीटों की तीन श्रेणियां हैं। सीटों पर प्रथम श्रेणी में 1 से 50, द्वितीय श्रेणी में 51 से 150 और तृतीय श्रेणी में 151 से 300 तक नम्बर डाले गए हैं। प्रत्येक दिसंबर में प्रथम श्रेणी में 30%, द्वितीय श्रेणी में 50% और तृतीय श्रेणी में 100% सीट अधिभोग था। यदि क्रमशः प्रथम श्रेणी, द्वितीय श्रेणी तथा तृतीय श्रेणी में प्रति सीट शुल्क ₹2,000, ₹1,000 और ₹500 है, तो दिसंबर महीने में प्रति श्रेणी आय अनुपात _____ है।

Ans 1. 4 : 2 : 1

2. 6 : 10 : 15

3. 3 : 10 : 30

4. 1 : 2 : 3

Question ID : 26433079945

Status : Answered

Chosen Option : 2

Q.5 प्रथम पाँच अभाज्य संख्याओं का औसत क्या होगा?

Ans 1. 5.6

2. 5.2

3. 5.4

4. 5.5

Question ID : 26433075638

Status : Answered

Chosen Option : 1

Q.6 225 मीटर की दूरी पर एक पुलिसकर्मी को देखकर एक चोर भागने लगा। तुरंत ही पुलिसकर्मी ने चोर का पीछा करना शुरू कर दिया। चोर और पुलिस क्रमशः 9 किमी/घंटा और 10 किमी/घंटा की चाल से भागे। 4.2 मिनट के बाद उनके बीच की दूरी ज्ञात कीजिए।

Ans 1. 175 मीटर

2. 180 मीटर

3. 155 मीटर

4. 165 मीटर

Question ID : 26433075923

Status : Answered

Chosen Option : 3

Q.7 35 लीटर पेट्रोल पर एक कार 450 km चलती है। 25 लीटर पेट्रोल पर कार कितने किलोमीटर (दो दशमलव स्थानों तक पूर्णांकित) चल सकती है?

Ans 1. 323.42 km

2. 322.42 km

3. 324.42 km

4. 321.43 km

Question ID : 26433079775

Status : Answered

Chosen Option : 4

Q.8 एक व्यक्ति एक कुर्सी पर 8 प्रतिशत और 6 प्रतिशत की दो क्रमिक छूट देता है, जिसका अंकित मूल्य 1200 रुपए है। कुर्सी का विक्रय मूल्य कितना होगा?

- Ans
- 1. 1080.54 रुपए
 - 2. 1104.24 रुपए
 - 3. 1176.52 रुपए
 - 4. 1037.76 रुपए

Question ID : 264330116762
Status : Answered
Chosen Option : 4

Q.9 यदि सात अंकों की संख्या 42971K2, 44 से विभाज्य है, तो K का मान क्या होगा?

- Ans
- 1. 6
 - 2. 4
 - 3. 7
 - 4. 5

Question ID : 26433075714
Status : Answered
Chosen Option : 4

Q.10 एक फार्मा कंपनी में, एक वैज्ञानिक किसी दवा का आविष्कार करने के लिए एसीटोन और टॉल्यूईन के शुद्ध रूप को मिश्रित कर रहा है। एसीटोन और टॉल्यूईन को मिलाकर प्राप्त विलयन का मूल्य Rs.16 प्रति लीटर है। वैज्ञानिक के लिए एसीटोन का मूल्य Rs.14 प्रति लीटर है। भंडारण की समस्या के कारण, वैज्ञानिक के लिए एसीटोन की तुलना में टॉल्यूईन का मूल्य महंगा है। विलयन में टॉल्यूईन का एसीटोन से अनुपात 4 : 1 है। वैज्ञानिक के लिए टॉल्यूईन का प्रति लीटर मूल्य (₹ में) कितना है?

- Ans
- 1. 16.5
 - 2. 20
 - 3. 21
 - 4. 18.5

Question ID : 26433081639
Status : Answered
Chosen Option : 1

Q.11 ₹40,000 के मूलधन पर 8% वार्षिक की दर से डेढ़ वर्ष के अंत में अर्धवार्षिक रूप से चक्रवृद्धि होने पर लगभग कितना मिश्रधन प्राप्त होगा?

- Ans
- 1. ₹43,915
 - 2. ₹45,625
 - 3. ₹44,995
 - 4. ₹42,675

Question ID : 26433091561
Status : Not Answered
Chosen Option : --

Q.12 यदि राम, रॉबर्ट और रहीम ने क्रमशः ₹50,000, ₹30,000 और ₹40,000 समान समय अवधि के लिए निवेश करके एक फर्म शुरू की, तो ₹18,000 के लाभ में से क्रमशः रहीम और रॉबर्ट के हिस्से का अनुपात _____ है।

Ans 1. 4 : 3

2. 3 : 4

3. 3 : 5

4. 4 : 5

Question ID : 26433079929

Status : Answered

Chosen Option : 1

Q.13 पिकी अपनी कार की टंकी में 20 लीटर पेट्रोल भर्ती है। वह एक यात्रा पर जाती है और टंकी में केवल 5.5 लीटर पेट्रोल बचता है। टंकी में पेट्रोल में कितना प्रतिशत परिवर्तन हुआ है?

Ans 1. 72.5 प्रतिशत

2. 85.5 प्रतिशत

3. 5.5 प्रतिशत

4. 14.5 प्रतिशत

Question ID : 264330116797

Status : Answered

Chosen Option : 1

Q.14 एक दुकानदार 9 खिलौने खरीदने पर 3 खिलौने मुफ्त देता है तथा सभी खिलौने समान प्रकार के हैं। ग्राहक को मिलने वाली छूट प्रतिशत क्या है?

Ans 1. 15%

2. 20%

3. 25%

4. 10%

Question ID : 26433076428

Status : Answered

Chosen Option : 3

Q.15 यदि एक आयत का विकर्ण 10 cm लंबा और परिमाप 28 cm है, तो आयत का क्षेत्रफल ज्ञात कीजिए।

Ans 1. 48 cm²

2. 24 cm²

3. 60 cm²

4. 96 cm²

Question ID : 26433087405

Status : Answered

Chosen Option : 1

Q.16 $-67 + 700 \div [85 - \{8 \times 9 + (28-5 \times 5)\}]$ का मान ज्ञात कीजिए।

Ans 1. 3

2. 2

3. 4

4. 1

Question ID : 26433082952

Status : Answered

Chosen Option : 1

Q.17 Rs.9,350 की राशि ऋणस्वरूप ली गई। इसका भुगतान दो समान किश्तों में किया गया है। यदि वार्षिक रूप से संयोजित चक्रवृद्धि ब्याज-दर 20% प्रति वर्ष हो, तो प्रत्येक किश्त की राशि कितनी है?

Ans 1. Rs.2600

2. Rs.2160

3. Rs.6200

4. Rs.6120

Question ID : 26433075349

Status : Not Answered

Chosen Option : --

Q.18 एक चुनाव में, राशिका और निकिता एक दूसरे के विरुद्ध थीं। राशिका को 54% मत मिले और वह 1280 मतों से चुनाव जीत गई। चुनाव में कुल कितने मत पड़े?

Ans 1. 15500

2. 15000

3. 16000

4. 16500

Question ID : 26433080295

Status : Answered

Chosen Option : 3

Q.19 10 फ़रवरी 2014 को, एक ट्रेन 6 a.m. पर दिल्ली से निकलती है और 10 a.m. जयनगर पहुँचती है। एक दूसरी ट्रेन 8 a.m. पर जयनगर से निकलती है और 11:30 a.m. पर दिल्ली पहुँचती है। दोनों ट्रेनें एक दूसरे को कितने बजे पार करती हैं?

Ans 1. 8:56 a.m.

2. 9:15 a.m.

3. 6:56 a.m.

4. 8:48 a.m.

Question ID : 26433075887

Status : Answered

Chosen Option : 1

Q.20 A और B अकेले एक कार्य को क्रमशः 7 दिन और 14 दिन में पूरा कर सकते हैं। यदि वे दोनों A से शुरू करके एकांतर दिनों में कार्य करते हैं, तो कार्य कितने दिन में पूरा हो जाएगा?

- Ans
- 1. 8
 - 2. 11
 - 3. 9
 - 4. 10

Question ID : 26433074310
Status : Answered
Chosen Option : 3

Section : Part-D-English

Q.1 Identify the MISSPELT word in the following sentence.

As they only require minimal supervision and support, naturally bright learners are largely unaffected by classroom dynamics.

- Ans
- 1. unaffected
 - 2. minimal
 - 3. supervision
 - 4. dynamics

Question ID : 26433073662
Status : Not Answered
Chosen Option : --

Q.2 Select the most appropriate option to fill in the blank.

The farmers used to _____ seeds by this time.

- Ans
- 1. so
 - 2. soe
 - 3. sew
 - 4. sow

Question ID : 26433089070
Status : Not Answered
Chosen Option : --

Q.3 Select the most appropriate option that can substitute the underlined segment in the given sentence. If there is no need to substitute it, select 'No substitution'.
To stay healthy, you must keep away from smoking.

- Ans
- 1. you will keep away from smoking.
 - 2. you may keep away from smoking.
 - 3. No substitution
 - 4. you can keep away from smoking.

Question ID : 26433093080
Status : Not Answered
Chosen Option : --

Q.4 Select the most appropriate option to fill in the blank.

One night, a hunter _____ near a river when he began to dream.

- Ans
- 1. sleep
 - 2. is sleeping
 - 3. was sleeping
 - 4. was slept

Question ID : 26433072727
Status : Not Answered
Chosen Option : --

Q.5 Complete the sentence by choosing the most appropriate synonym of the underlined word.

When you look at something you _____ it.

- Ans
- 1. see
 - 2. touch
 - 3. hear
 - 4. ignore

Question ID : 26433088865
Status : Not Answered
Chosen Option : --

Q.6 Select the INCORRECTLY spelt word.

- Ans
- 1. Consientious
 - 2. Extinguish
 - 3. Moan
 - 4. Definite

Question ID : 26433073741
Status : Not Answered
Chosen Option : --

Q.7 Select the most appropriate option that can substitute the underlined segment in the given sentence. If there is no need to substitute it, select 'No substitution'.

The entire economy has been effected by the riots in the state.

- Ans
- 1. No substitution
 - 2. have been effected
 - 3. have been affected
 - 4. has been affected

Question ID : 26433091765
Status : Not Answered
Chosen Option : --

Q.8 Select the most appropriate antonym of the given word.

Extravagant

- Ans
- 1. Mean
 - 2. Wicked
 - 3. Wasteful
 - 4. Frugal

Question ID : 26433072358
Status : Not Answered
Chosen Option : --

Q.9 Fill in the blanks with the correct homophone.

Before planning a trip, considering the _____ for the trip is necessary.

- Ans
- 1. fear
 - 2. fore
 - 3. fair
 - 4. fare

Question ID : 26433092934
Status : Not Answered
Chosen Option : --

Q.10 Select the most appropriate ANTONYM of the given word.

Sage

- Ans
- 1. Useless
 - 2. Foolish
 - 3. Threatening
 - 4. Plain

Question ID : 26433073804
Status : Not Answered
Chosen Option : --

Q.11 Select the most appropriate ANTONYM of the underlined word.

Blunt objects will not have that much impact.

- Ans
- 1. Lame
 - 2. Honest
 - 3. Sharp
 - 4. Torrid

Question ID : 26433094733
Status : Not Answered
Chosen Option : --

Q.12 Select the most appropriate synonym of the given word.

Glimpse

- Ans
- 1. Gawk
 - 2. See through
 - 3. Vision
 - 4. Glance

Question ID : 26433073393
Status : Not Answered
Chosen Option : --

Q.13 Select the option that expresses the given sentence in past perfect tense.

- A. I read a lot about mythology.
- B. I had been reading a lot about mythology.
- C. I was reading a lot about mythology.
- D. I had read a lot about mythology.

- Ans
- 1. D
 - 2. B
 - 3. C
 - 4. A

Question ID : 26433073517
Status : Not Answered
Chosen Option : --

Q.14 Select the most appropriate meaning of the underlined idiom that can be substituted in the following sentence.

The new Prince is not fit to hold a candle to his dead father.

- Ans
- 1. cannot to be compared with
 - 2. holding in high esteem,
 - 3. showing the way to
 - 4. holding the light to

Question ID : 26433072237
Status : Not Answered
Chosen Option : --

Q.15 Select the most appropriate meaning of the given idiom.

Done for

- Ans
- 1. Finished a job
 - 2. Ruined
 - 3. Depreciated
 - 4. Retreated

Question ID : 26433086330
Status : Not Answered
Chosen Option : --

Comprehension:

In the following passage, some words have been deleted. Read the passage carefully and select the most appropriate option to fill in each blank.

The Great Depression was a severe (1) _____ economic depression in the decade (2) _____ World War II. In most countries the depression (3) _____ in about 1929 and lasted until the late 1930s or early 1940s. It was the longest, most widespread, and deepest depression of the 20th century. In the 21st century, the Great Depression is commonly used as an example of how far the world's economy can (4) _____.

The depression originated in the U.S. Economic historians usually (5) _____ the start of the Great Depression to the sudden devastating collapse of US stock market prices on 29 October 1929, known as Black Tuesday; some dispute this conclusion, and see the stock crash as a symptom, rather than a cause, of the Great Depression.

SubQuestion No : 16

Q.16 Select the most appropriate option to fill in blank number 1.

- Ans
- 1. citywide
 - 2. nationwide
 - 3. statewide
 - 4. worldwide

Question ID : 26433060646

Status : Not Answered

Chosen Option : --

Comprehension:

In the following passage, some words have been deleted. Read the passage carefully and select the most appropriate option to fill in each blank.

The Great Depression was a severe (1) _____ economic depression in the decade (2) _____ World War II. In most countries the depression (3) _____ in about 1929 and lasted until the late 1930s or early 1940s. It was the longest, most widespread, and deepest depression of the 20th century. In the 21st century, the Great Depression is commonly used as an example of how far the world's economy can (4) _____.

The depression originated in the U.S. Economic historians usually (5) _____ the start of the Great Depression to the sudden devastating collapse of US stock market prices on 29 October 1929, known as Black Tuesday; some dispute this conclusion, and see the stock crash as a symptom, rather than a cause, of the Great Depression.

SubQuestion No : 17

Q.17 Select the most appropriate option to fill in blank number 2.

- Ans
- 1. succeeding
 - 2. proceeding
 - 3. receding
 - 4. preceding

Question ID : 26433060647

Status : Not Answered

Chosen Option : --

Comprehension:

In the following passage, some words have been deleted. Read the passage carefully and select the most appropriate option to fill in each blank.

The Great Depression was a severe (1) _____ economic depression in the decade (2) _____ World War II. In most countries the depression (3) _____ in about 1929 and lasted until the late 1930s or early 1940s. It was the longest, most widespread, and deepest depression of the 20th century. In the 21st century, the Great Depression is commonly used as an example of how far the world's economy can (4) _____.

The depression originated in the U.S. Economic historians usually (5) _____ the start of the Great Depression to the sudden devastating collapse of US stock market prices on 29 October 1929, known as Black Tuesday; some dispute this conclusion, and see the stock crash as a symptom, rather than a cause, of the Great Depression.

SubQuestion No : 18

Q.18 Select the most appropriate option to fill in blank number 3.

- Ans
- 1. ended
 - 2. followed
 - 3. started
 - 4. proceeded

Question ID : 26433060648

Status : Not Answered

Chosen Option : --

Comprehension:

In the following passage, some words have been deleted. Read the passage carefully and select the most appropriate option to fill in each blank.

The Great Depression was a severe (1) _____ economic depression in the decade (2) _____ World War II. In most countries the depression (3) _____ in about 1929 and lasted until the late 1930s or early 1940s. It was the longest, most widespread, and deepest depression of the 20th century. In the 21st century, the Great Depression is commonly used as an example of how far the world's economy can (4) _____.

The depression originated in the U.S. Economic historians usually (5) _____ the start of the Great Depression to the sudden devastating collapse of US stock market prices on 29 October 1929, known as Black Tuesday; some dispute this conclusion, and see the stock crash as a symptom, rather than a cause, of the Great Depression.

SubQuestion No : 19

Q.19 Select the most appropriate option to fill in blank number 4.

- Ans
- 1. decline
 - 2. negate
 - 3. slip
 - 4. backtrack

Question ID : 26433060649

Status : Not Answered

Chosen Option : --

Comprehension:

In the following passage, some words have been deleted. Read the passage carefully and select the most appropriate option to fill in each blank.

The Great Depression was a severe (1) _____ economic depression in the decade (2) _____ World War II. In most countries the depression (3) _____ in about 1929 and lasted until the late 1930s or early 1940s. It was the longest, most widespread, and deepest depression of the 20th century. In the 21st century, the Great Depression is commonly used as an example of how far the world's economy can (4) _____.

The depression originated in the U.S. Economic historians usually (5) _____ the start of the Great Depression to the sudden devastating collapse of US stock market prices on 29 October 1929, known as Black Tuesday; some dispute this conclusion, and see the stock crash as a symptom, rather than a cause, of the Great Depression.

SubQuestion No : 20

Q.20 Select the most appropriate option to fill in blank number 5.

- Ans
- 1. emblem
 - 2. merit
 - 3. attribute
 - 4. assign

Question ID : 26433060650
Status : Not Answered
Chosen Option : --

Section : Part-D-Hindi

Q.1 निम्न विकल्पों में से शुद्ध वाक्य का चयन कीजिए।

- Ans
- 1. बेटे ने बेटी से पूछा।
 - 2. बेटा ने बेटी से पूछा।
 - 3. बेटो बेटियों से पूछा।
 - 4. बेटी बेटा से पूछा।

Question ID : 26433063039
Status : Answered
Chosen Option : 1

Q.2 निम्नलिखित मुहावरे का उपयुक्त अर्थ क्या होगा?
खून का घूट पीना

- Ans
- 1. चुगली करना
 - 2. कोई गर्म चीज पीना
 - 3. क्रोध दबाना
 - 4. भाग जाना

Question ID : 26433065779
Status : Answered
Chosen Option : 3

Q.3 निम्नलिखित में से किस वाक्य में वर्तनीगत अशुद्धि है?

- Ans
- 1. वह मेरा इकलौता बेटा है।
 - 2. यहाँ अंतर्विश्वविद्यालय प्रतियोगिता होगी।
 - 3. उसने मोतियों का एक हार खरीदा।
 - 4. 'आर्यावर्त' एक राष्ट्रीय दैनिक है।

Question ID : 26433079233
Status : Answered
Chosen Option : 4

Q.4 'एक और एक ग्यारह' होते हैं।' इस मुहावरे का सही अर्थ है -

- Ans
- 1. संगठन में शक्ति
 - 2. एक कार्य के दो लाभ
 - 3. बड़ा समूह
 - 4. गलत लोगों का समूह

Question ID : 26433062606
Status : Answered
Chosen Option : 4

Q.5 'वसन' के दो अर्थ हैं। एक अर्थ है 'स्त्रियों के कमर का एक आभूषण'। इसके दूसरे अर्थ से निम्न वाक्य पूर्ण कीजिए।

'नए _____ से पूजा करने की विधि है।'

- Ans
- 1. घंटी
 - 2. सिंदूर
 - 3. ज्योति
 - 4. वस्त्र

Question ID : 26433079238
Status : Answered
Chosen Option : 4

Q.6 निम्नलिखित में से किस वाक्य में 'उत्तम पुरुष सर्वनाम' सम्बन्धी अशुद्धि है?

- Ans
- 1. हमारे गाँव यहाँ से 200 मील दूर है।
 - 2. मुझे दिन में तीन बार जूस पीना होता है।
 - 3. मुझे कल दिल्ली जाना है।
 - 4. मेरा नाम राहुल है।

Question ID : 26433063000
Status : Answered
Chosen Option : 1

Q.7 'लताओं से आच्छादित रमणीय स्थान'
ऊपर दिए गए वाक्यांश के लिए एक शब्द क्या होगा?

- Ans
- 1. वट
 - 2. निकुंज
 - 3. जंगल
 - 4. अमराई

Question ID : 26433070060
Status : Answered
Chosen Option : 1

Q.8 'जो बहुत बोलता है', वाक्यांश के लिए एक शब्द _____ है।

- Ans
- 1. बंधुआ
 - 2. बधिर
 - 3. वाचाल
 - 4. बहका

Question ID : 26433062939
Status : Answered
Chosen Option : 3

Q.9 'वह पढ़ना माँगता है।' इस वाक्य में रेखांकित शब्द के स्थान पर उपयुक्त शब्द क्या होगा?

- Ans
- 1. चाहता
 - 2. जाता
 - 3. खाता
 - 4. सोचता

Question ID : 26433062206
Status : Answered
Chosen Option : 1

Q.10 'मैं रविवार के दिन तुम्हारे घर आऊंगा।' इस वाक्य में रेखांकित शब्द के स्थान सही पर शब्द क्या होगा?

- Ans
- 1. को
 - 2. पर
 - 3. के लिए
 - 4. में

Question ID : 26433085057
Status : Answered
Chosen Option : 1

Q.11 पिछले साल गाँव में भयानक बाढ़ आई थी।
उपरोक्त वाक्य में रेखांकित शब्द के विलोम शब्द का चयन कीजिए।

- Ans 1. नदी
 2. सूखा
 3. पानी
 4. अकाल

Question ID : 26433069761
Status : Answered
Chosen Option : 2

Q.12 निम्नलिखित में से 'अपेक्षा' का अर्थ नहीं होता है-

- Ans 1. विचार
 2. इच्छा
 3. आशा
 4. आवश्यकता

Question ID : 26433080947
Status : Answered
Chosen Option : 1

Q.13 'तिनकों का घर' वाक्यांश के लिए इनमें से उपयुक्त शब्द कौन-सा है?

- Ans 1. कुटज
 2. महल
 3. आरसी
 4. उटज

Question ID : 26433066888
Status : Answered
Chosen Option : 1

Q.14 निम्नलिखित शब्द के सही पर्यायवाची शब्द का चयन विकल्पों में से कीजिए।
सोना

- Ans 1. सुमन
 2. रजत
 3. कंचन
 4. कंगन

Question ID : 26433066943
Status : Answered
Chosen Option : 3

Q.15 'राम ने केबल दो रूपये लिए।' इस वाक्य के किस शब्द में वर्तनीगत अशुद्धि है?

- Ans
- 1. लिए
 - 2. राम
 - 3. रूपये
 - 4. केबल

Question ID : 26433085063

Status : Answered

Chosen Option : 4

Comprehension:

निम्नलिखित गद्यांश में कुछ शब्दों को हटा दिया गया है। दिए गए विकल्पों की सहायता से रिक्त स्थानों की पूर्ति कीजिए। प्रत्येक संख्या के लिए सबसे उपयुक्त विकल्प का चयन कीजिए।
परिश्रम 1. _____ का द्वार है। मनुष्य 2. _____ के सहारे ही विकसित अवस्था तक पहुंचा है। उसी के सहारे उसने अन्न उपजाया। 3. _____ का विकास किया, जिसके सहारे आज यहाँ जगमगाती सभ्यता चल रही है।
4. _____ से किया गया परिश्रम ही परिश्रम कहलाता है। परिश्रम करने वाला मनुष्य सदा सुखी रहता है।
परिश्रमी व्यक्ति का जीवन 5. _____ से पूर्ण होता है।

SubQuestion No : 16

Q.16 रिक्त स्थान 1 की पूर्ति के लिए सबसे उपयुक्त विकल्प का चयन करें।

- Ans
- 1. झुकाव
 - 2. उन्नति
 - 3. अधःपतन
 - 4. अवनति

Question ID : 264330110885

Status : Answered

Chosen Option : 2

Comprehension:

निम्नलिखित गद्यांश में कुछ शब्दों को हटा दिया गया है। दिए गए विकल्पों की सहायता से रिक्त स्थानों की पूर्ति कीजिए। प्रत्येक संख्या के लिए सबसे उपयुक्त विकल्प का चयन कीजिए।
परिश्रम 1. _____ का द्वार है। मनुष्य 2. _____ के सहारे ही विकसित अवस्था तक पहुंचा है। उसी के सहारे उसने अन्न उपजाया। 3. _____ का विकास किया, जिसके सहारे आज यहाँ जगमगाती सभ्यता चल रही है।
4. _____ से किया गया परिश्रम ही परिश्रम कहलाता है। परिश्रम करने वाला मनुष्य सदा सुखी रहता है।
परिश्रमी व्यक्ति का जीवन 5. _____ से पूर्ण होता है।

SubQuestion No : 17

Q.17 रिक्त स्थान 2 की पूर्ति के लिए सबसे उपयुक्त विकल्प का चयन करें।

- Ans
- 1. अनुद्यम
 - 2. परिश्रम
 - 3. अवकाश
 - 4. विश्राम

Question ID : 264330110886

Status : Answered

Chosen Option : 2

Comprehension:

निम्नलिखित गद्यांश में कुछ शब्दों को हटा दिया गया है। दिए गए विकल्पों की सहायता से रिक्त स्थानों की पूर्ति कीजिए। प्रत्येक संख्या के लिए सबसे उपयुक्त विकल्प का चयन कीजिए।
परिश्रम 1. _____ का द्वार है। मनुष्य 2. _____ के सहारे ही विकसित अवस्था तक पहुंचा है। उसी के सहारे उसने अन्न उपजाया। 3. _____ का विकास किया, जिसके सहारे आज यहाँ जगमगाती सभ्यता चल रही है।
4. _____ से किया गया परिश्रम ही परिश्रम कहलाता है। परिश्रम करने वाला मनुष्य सदा सुखी रहता है।
परिश्रमी व्यक्ति का जीवन 5. _____ से पूर्ण होता है।

SubQuestion No : 18

Q.18 रिक्त स्थान 3 की पूर्ति के लिए सबसे उपयुक्त विकल्प का चयन करें।

- Ans 1. तकनीक
 2. कॉलेज
 3. स्कूल
 4. कारखाना

Question ID : 264330110887

Status : Answered

Chosen Option : 1

Comprehension:

निम्नलिखित गद्यांश में कुछ शब्दों को हटा दिया गया है। दिए गए विकल्पों की सहायता से रिक्त स्थानों की पूर्ति कीजिए। प्रत्येक संख्या के लिए सबसे उपयुक्त विकल्प का चयन कीजिए।
परिश्रम 1. _____ का द्वार है। मनुष्य 2. _____ के सहारे ही विकसित अवस्था तक पहुंचा है। उसी के सहारे उसने अन्न उपजाया। 3. _____ का विकास किया, जिसके सहारे आज यहाँ जगमगाती सभ्यता चल रही है।
4. _____ से किया गया परिश्रम ही परिश्रम कहलाता है। परिश्रम करने वाला मनुष्य सदा सुखी रहता है।
परिश्रमी व्यक्ति का जीवन 5. _____ से पूर्ण होता है।

SubQuestion No : 19

Q.19 रिक्त स्थान 4 की पूर्ति के लिए सबसे उपयुक्त विकल्प का चयन करें।

- Ans 1. मन तथा बुद्धि
 2. अपमान
 3. मन रहित
 4. अमन

Question ID : 264330110888

Status : Answered

Chosen Option : 1

Comprehension:

निम्नलिखित गद्यांश में कुछ शब्दों को हटा दिया गया है। दिए गए विकल्पों की सहायता से रिक्त स्थानों की पूर्ति कीजिए। प्रत्येक संख्या के लिए सबसे उपयुक्त विकल्प का चयन कीजिए।
परिश्रम 1. _____ का द्वार है। मनुष्य 2. _____ के सहारे ही विकसित अवस्था तक पहुंचा है। उसी के सहारे उसने अन्न उपजाया। 3. _____ का विकास किया, जिसके सहारे आज यहाँ जगमगाती सभ्यता चल रही है। 4. _____ से किया गया परिश्रम ही परिश्रम कहलाता है। परिश्रम करने वाला मनुष्य सदा सुखी रहता है। परिश्रमी व्यक्ति का जीवन 5. _____ से पूर्ण होता है।

SubQuestion No : 20

Q.20 रिक्त स्थान 5 की पूर्ति के लिए सबसे उपयुक्त विकल्प का चयन करें।

- Ans**
- 1. दीनता
 - 2. सौम्यता
 - 3. स्वाभिमान
 - 4. नम्रता

Question ID : 264330110889

Status : Answered

Chosen Option : 3

KD Job Updates

Constable GD in CAPFs SSF Rifleman GD in Assam Rifles and Sepoy in NCB Examination 2022

Roll Number	KD Job Updates
Candidate Name	KD Job Updates
Venue Name	Yuvi Online Solutions
Exam Date	30/01/2023
Exam Time	2:30 PM - 3:30 PM
Subject	Constable GD Examination 2022

Section : Part-A-General Intelligence and Reasoning

Q.1 पाँच व्यक्ति X, Y, Z, T और U एक सीधी पंक्ति में उत्तर की ओर मुख करके बैठे हैं। Z के दाईं ओर केवल दो व्यक्ति हैं, और Y के दाईं ओर केवल तीन व्यक्ति हैं। T के बाईं ओर केवल तीन व्यक्ति हैं। पंक्ति के ठीक मध्य में कौन बैठा है?

- Ans
- 1. Z
 - 2. U
 - 3. X
 - 4. Y

Question ID : 26433056044
Status : Answered
Chosen Option : 1

Q.2 निम्नलिखित में से कौन-सा अक्षर-समूह दी गई श्रृंखला में प्रश्न-चिह्न (?) के स्थान पर आएगा?
VCFS, RGJO, NKNK, ?, FSVK

- Ans
- 1. KOQG
 - 2. JORG
 - 3. KORH
 - 4. JOQH

Question ID : 26433076449
Status : Answered
Chosen Option : 2

Q.3 कीर्ति, सुमन, शुभ, कनक, परी, चारु, श्लोक और शिवी एक वर्गाकार मेज के चारों ओर मेज के केंद्र की ओर मुख करके बैठे हैं। उनमें से कुछ मेज के कोनों पर बैठे हैं, जबकि कुछ मेज की भुजाओं के ठीक मध्य में बैठे हुए हैं। कीर्ति, शुभ के बाईं ओर तीसरे स्थान पर बैठी है। कीर्ति एक कोने पर बैठी है। कनक, परी के दाईं ओर दूसरे स्थान पर बैठी है। परी किसी भी कोने पर नहीं बैठी है। परी, कीर्ति के ठीक बगल में नहीं बैठी है। सुमन, चारु के ठीक बगल में बैठी है। सुमन मेज की किसी भी भुजा के ठीक मध्य में नहीं बैठी हुई है। किसी भी एक दिशा से सुमन और श्लोक के बीच केवल तीन व्यक्ति बैठे हैं। श्लोक के बाईं ओर तीसरे स्थान पर कौन बैठा/बैठी है?

- Ans
- 1. चारु
 - 2. सुमन
 - 3. शुभ
 - 4. शिवी

Question ID : 26433082286
Status : Answered
Chosen Option : 3

Q.4 A # B का अर्थ है 'A, B का भाई है'
 A @ B का अर्थ है 'A, B की पुत्री है'
 A & B का अर्थ है 'A, B का पति है'
 A % B का अर्थ है 'A, B की पत्नी है'
 A * B का अर्थ है 'A, B का पुत्र है'
 यदि P @ M % H # A @ G & B है, तो B, P से किस प्रकार संबंधित है?

- Ans
- 1. सास
 - 2. माता
 - 3. बहन
 - 4. दादी

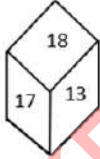
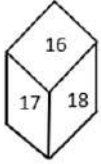
Question ID : 26433082535
 Status : Answered
 Chosen Option : 4

Q.5 उस विकल्प का चयन कीजिए, जो पाँचवें अक्षर-समूह से उसी प्रकार संबंधित है, जिस प्रकार दूसरा अक्षर-समूह पहले अक्षर-समूह से संबंधित है और चौथा अक्षर-समूह तीसरे अक्षर-समूह से संबंधित है।
 SCIENCE : RAHCMAD :: CAPTAIN : BYORZGM :: COUNTRY : ?

- Ans
- 1. BMTLRPX
 - 2. BMTLSPX
 - 3. ANSMRQX
 - 4. BMTLSQX

Question ID : 26433082631
 Status : Answered
 Chosen Option : 2

Q.6 एक ही पासे की दो अलग-अलग स्थितियों को दर्शाया गया है जिस पर 13 से 18 तक की संख्या बनी है।
 '16' दर्शाने वाले फलक के विपरीत फलक पर स्थित संख्या ज्ञात कीजिए।



- Ans
- 1. 15
 - 2. 14
 - 3. 17
 - 4. 13

Question ID : 26433085521
 Status : Answered
 Chosen Option : 4

Q.7 यदि '+' का अर्थ है '-', '+ का अर्थ है '+', '-' का अर्थ है 'x', और 'x' का अर्थ है '÷', तो निम्नलिखित में से कौन-सा अभिव्यक्ति का मान होगा?
 $45 \times 5 + 27 \div 81 - 3$

Ans 1. 227

2. 235

3. 225

4. 255

Question ID : 264330114192

Status : Answered

Chosen Option : 3

Q.8 किस विकल्प में निम्नलिखित शब्दों का वह क्रम दिया गया है, जिस क्रम में वे अंग्रेजी शब्दकोश में आते हैं?

1 Garage

2 Garnish

3 Gourmet

4 Garland

5 Gastronomy

Ans 1. 1,2,4,3,5

2. 1,4,2,3,5

3. 1,4,2,5,3

4. 1,2,3,4,5

Question ID : 26433069280

Status : Answered

Chosen Option : 3

Q.9 निम्नलिखित में से कौन-सा अक्षर नीचे दी गई अक्षर श्रृंखला में प्रश्न-चिह्न (?) के स्थान पर आकर श्रृंखला को पूर्ण करेगा?
J, S, B, K, ?

Ans 1. S

2. U

3. T

4. R

Question ID : 26433067295

Status : Answered

Chosen Option : 3

Q.10 नीचे दिए गए समीकरण को गणितीय रूप से सही बनाने के लिए किन दो चिन्हों को परस्पर बदलना चाहिए?

$$27 + 36 \times 32 - 8 \div 20 = 151$$

Ans 1. + और ÷

2. - और +

3. + और ×

4. ÷ और -

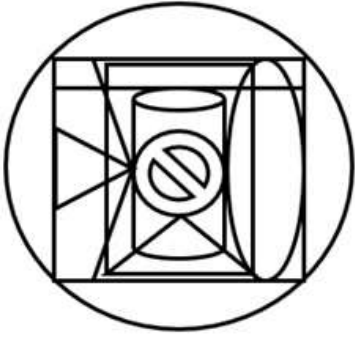
Question ID : 264330117545

Status : Answered

Chosen Option : 4

Q.11 उस विकल्प-आकृति का चयन कीजिए, जो प्रस्तुत आकृति में अंतर्निहित है।

(घुमाना अनुमन्य नहीं है)



Ans

✗ 1.



✗ 2.



✗ 3.



✓ 4.



KD Job Updates

Question ID : 26433076582

Status : Answered

Chosen Option : 4

Q.12 उस विकल्प का चयन करें जो तीसरी संख्या से उसी प्रकार संबंधित है जिस प्रकार दूसरी संख्या पहली संख्या से संबंधित है और छठी संख्या पांचवीं संख्या से संबंधित है।
9 : 56 :: 12 : ? :: 5 : 12

Ans 1. 110

2. 105

3. 120

4. 115

Question ID : 26433067938

Status : Answered

Chosen Option : 1

Q.13 किसी निश्चित कोड भाषा में 'he called them' को 'ka ba ma' के रूप में लिखा गया है, 'i was called' को 'ga va ba' के रूप में लिखा गया है और 'he was hungry' को 'ka va da' के रूप में लिखा गया है। उसी कोड भाषा में 'hungry' शब्द के लिए क्या कोड है?

Ans 1. da

2. ma

3. ba

4. ga

Question ID : 26433076687

Status : Answered

Chosen Option : 1

Q.14 दिए गए संयोजन की सही दर्पण छवि का चयन करें जब दर्पण को 'PQ' पर रखा जाता है जैसा कि नीचे दिखाया गया है।

TE\$@D#VHM 

Ans

1. MHV\$D@#ET

2. WHV#D@#ET

3. MHV#D@#ET

4. WHV#D@#ET

Question ID : 26433082746

Status : Answered

Chosen Option : 3

Q.15 एक कूट भाषा में 'You can go' को 'na re te', 'You come inside' को 'se te pe' लिखा जाता है, 'He can go inside' को 're pe na ke' लिखा जाता है। उसी भाषा में 'He' शब्द के लिए क्या कूट है?

- Ans
- 1. pe
 - 2. ke
 - 3. na
 - 4. re

Question ID : 26433068933
 Status : Answered
 Chosen Option : 2

Q.16 यदि श्रृंखला जारी रखनी है तो कौन-सी आकृति प्रश्न चिह्न (?) के स्थान पर आएगी?

P	U	T	T	U	P	D	T	U	U	T	D	
A	L	C	C	A	L	P	C	A	A	P	C	?
D	E	N	E	N	D	L	E	N	E	N	L	

Ans

- 1.

L	U	T
C	D	A
P	E	N
- 2.

T	D	U
P	C	A
N	L	E
- 3.

D	T	U
C	A	P
N	L	E
- 4.

L	U	T
D	A	P
C	E	N

Question ID : 26433076632
 Status : Answered
 Chosen Option : 4

Q.17 निम्नलिखित में से कौन-सी संख्या दी गई श्रृंखला में प्रश्न-चिह्न (?) को प्रतिस्थापित करेगी?
32, 35, ?, 47, 56, 67

- Ans
- 1. 39
 - 2. 42
 - 3. 41
 - 4. 40

Question ID : 26433069384
Status : Answered
Chosen Option : 4

Q.18 निम्नलिखित में से कौन-सी संख्या दी गई श्रृंखला में प्रश्न-चिह्न (?) के स्थान पर आएगी?
19216, 9604, 4800, 2396, 1196, ?, 295

- Ans
- 1. 584
 - 2. 564
 - 3. 594
 - 4. 596

Question ID : 26433085347
Status : Answered
Chosen Option : 3

Q.19 तीन कथनों के बाद तीन निष्कर्ष I, II और III दिए गए हैं। कथनों को सत्य मानते हुए, भले ही वे सामान्य रूप से ज्ञात तथ्यों से भिन्न प्रतीत होते हों, निर्धारित करें कि कौन-सा/से निष्कर्ष, कथनों का तार्किक रूप से अनुसरण करता है/करते हैं।

कथन:

सभी दर्पण कंघी हैं।

सभी क्लिप कंघी हैं।

सभी कंघी ब्रश हैं।

निष्कर्ष:

I. सभी क्लिप ब्रश हैं।

II. सभी दर्पण ब्रश हैं।

III. कुछ ब्रश क्लिप हैं।

- Ans
- 1. सभी निष्कर्ष अनुसरण करते हैं
 - 2. केवल निष्कर्ष I और III अनुसरण करते हैं
 - 3. केवल निष्कर्ष II और III अनुसरण करते हैं
 - 4. केवल निष्कर्ष I और II अनुसरण करते हैं

Question ID : 26433082301
Status : Answered
Chosen Option : 1

Q.20 'बुद्धिमान' का जो संबंध 'बुद्धिहीन' से है, वही संबंध 'विशेषज्ञ' का '_____': से है।
(शब्दों को अर्थपूर्ण शब्दों के रूप में मानना है और उन्हें शब्द में अक्षरों/व्यंजनों/स्वरों की संख्या के आधार पर एक-दूसरे से संबंधित नहीं करना है।)

- Ans
- 1. विद्वान
 - 2. पेशेवर
 - 3. अनुभवी
 - 4. नौसिखिया

Question ID : 26433057752
Status : Answered
Chosen Option : 4

Section : Part-B-General Knowledge and General awareness

Q.1 भारत सरकार की _____ पंचवर्षीय योजना (2012-17) भारत की अंतिम पंचवर्षीय योजना थी।

- Ans
- 1. दसवीं
 - 2. आठवीं
 - 3. बारहवीं
 - 4. पांचवीं

Question ID : 264330115377
Status : Answered
Chosen Option : 3

Q.2 भारतीय राष्ट्रीय सर्वेक्षण द्वारा प्रकाशित रिपोर्ट के अनुसार, 2022 में भारत की साक्षरता दर कितनी है?

- Ans
- 1. 72.35%
 - 2. 67.8%
 - 3. 66.66%
 - 4. 77.7%

Question ID : 264330116060
Status : Answered
Chosen Option : 1

Q.3 भूपर्पटी को मैटल से अलग करने वाली रेखा क्या कहलाती है?

- Ans
- 1. मैग्मा असंबद्धता
 - 2. मोहो असंबद्धता
 - 3. कॉम्प असंबद्धता
 - 4. एंड्रिज असंबद्धता

Question ID : 26433092216
Status : Answered
Chosen Option : 2

Q.4 धांगरी गाजा _____ का लोक नृत्य है।

- Ans
- 1. तेलंगाना
 - 2. महाराष्ट्र
 - 3. उत्तराखंड
 - 4. असम

Question ID : 26433086635
Status : Answered
Chosen Option : 2

Q.5 भारत में खेल संस्कृति को बढ़ावा देने के लिए युवा मामले और खेल मंत्रालय द्वारा शुरू किए गए निम्नलिखित में से कौन से कार्यक्रम में 12 कार्यक्षेत्र शामिल हैं?

- Ans
- 1. ई-पाठशाला
 - 2. खेलो इंडिया
 - 3. फिट इंडिया
 - 4. टॉप्स (TOPS)

Question ID : 26433086726
Status : Answered
Chosen Option : 2

Q.6 ओलंपिक्स में भारतीय हॉकी टीम के पहले कप्तान कौन थे?

- Ans
- 1. जयपाल सिंह मुंडा
 - 2. ध्यानचंद
 - 3. लाल बुखारी
 - 4. कृष्ण लाल

Question ID : 264330116265
Status : Answered
Chosen Option : 1

Q.7 मार्च 2022 के चुनाव के बाद गोवा के मुख्यमंत्री कौन बने?

- Ans
- 1. मनोहर पर्रिकर
 - 2. प्रमोद सावंत
 - 3. लक्ष्मीकांत पारसेकर
 - 4. दिगंबर कामत

Question ID : 264330115035
Status : Answered
Chosen Option : 1

Q.8 _____ का उपयोग उर्वरक, सिंथेटिक फाइबर, प्लास्टिक, चिपकने वाले पदार्थ, पेंट और डाई बनाने के लिए किया जाता है।

- Ans
- 1. सल्फ्यूरिक एसिड
 - 2. क्षार
 - 3. सोडा ऐश
 - 4. नाइट्रिक एसिड

Question ID : 264330115579
Status : Not Answered
Chosen Option : --

Q.9 अटल पेंशन योजना (APY) के अंतर्गत भारत सरकार का सह-योगदान _____ के लिए उपलब्ध है।

- Ans
- 1. 60 वर्ष
 - 2. 25 वर्ष
 - 3. 5 वर्ष
 - 4. 10 वर्ष

Question ID : 264330116197
Status : Not Answered
Chosen Option : --

Q.10 उस रिट की पहचान करें, जिसके आधार पर न्यायालय हिरासत में लिए गए व्यक्ति को उसके निरोध की वैधता की जाँच करने के लिए उसे उसके सामने पेश करने के निर्देश देता है।

- Ans
- 1. अधिकार पृच्छा
 - 2. उत्प्रेषण
 - 3. बन्दी प्रत्यक्षीकरण
 - 4. परमादेश

Question ID : 26433054547
Status : Answered
Chosen Option : 3

Q.11 मीनाक्षीसुंदरम पिल्लई किस नृत्य शैली के लिए खातिलब्ध हैं?

- Ans
- 1. कुचिपुड़ी
 - 2. भरतनाट्यम
 - 3. लावणी
 - 4. कथकली

Question ID : 264330115851
Status : Answered
Chosen Option : 2

Q.12 'सोनपुर पशु मेला' भारत के निम्नलिखित में से किस राज्य में लगता है?

- Ans
- 1. मध्य प्रदेश
 - 2. झारखंड
 - 3. बिहार
 - 4. उत्तर प्रदेश

Question ID : 26433094882
Status : Answered
Chosen Option : 3

Q.13 _____ भारत का केंद्रीय बैंक है।

- Ans
- 1. सिक्वोरिटीज़ एंड एक्सचेंज बोर्ड ऑफ़ इंडिया
 - 2. बैंक ऑफ़ इंडिया
 - 3. भारतीय स्टेट बैंक
 - 4. भारतीय रिज़र्व बैंक

Question ID : 264330115332
Status : Answered
Chosen Option : 4

Q.14 _____ कार्बोहाइड्रेट, प्रोटीन और वसा के पूर्ण पाचन का स्थल है।

- Ans
- 1. क्षुद्रांत्र
 - 2. यकृत
 - 3. ग्रसिका
 - 4. बृहद्रांत्र

Question ID : 264330115193
Status : Answered
Chosen Option : 1

Q.15 निम्नलिखित में से किस राजा के शासनकाल में सांची का महान स्तूप बनाया गया था?

- Ans
- 1. अशोक
 - 2. बिंदुसार
 - 3. बृहद्रथ
 - 4. चंद्रगुप्त

Question ID : 264330115449
Status : Answered
Chosen Option : 1

Q.16 प्रार्थना समाज की स्थापना _____ में बम्बई में हुई थी।

- Ans
- 1. 1865
 - 2. 1867
 - 3. 1871
 - 4. 1869

Question ID : 264330115722
Status : Answered
Chosen Option : 2

Q.17 निम्नलिखित में से कौन मई 2022 में त्रिपुरा के/की मुख्यमंत्री बने/बनी?

- Ans
- 1. आशीष दास
 - 2. मलिना देबनाथ
 - 3. माणिक साहा
 - 4. अरविंद गिरी

Question ID : 264330114911
Status : Answered
Chosen Option : 3

Q.18 गरीबी हटाओ' और 'आत्मनिर्भरता की प्राप्ति' किस पंचवर्षीय योजना के दो प्रमुख उद्देश्य थे?

- Ans
- 1. तीसरी
 - 2. सातवीं
 - 3. पांचवीं
 - 4. पहली

Question ID : 264330116146
Status : Answered
Chosen Option : 3

Q.19 राष्ट्रगान और राष्ट्रीय ध्वज का सम्मान करना क्या है?

- Ans
- 1. प्रत्येक नागरिक का मूल कर्तव्य
 - 2. प्रत्येक नागरिक का सामान्य कर्तव्य
 - 3. प्रत्येक नागरिक का मूल अधिकार
 - 4. प्रत्येक नागरिक का कानूनी अधिकार

Question ID : 26433090668
Status : Answered
Chosen Option : 1

Q.20 सौर सेल बनाने में प्रयुक्त तत्व की पहचान करें।

- Ans
- 1. सिलिकॉन
 - 2. काँसा
 - 3. टंगस्टन
 - 4. मैगनीज

Question ID : 26433087841
Status : Answered
Chosen Option : 1

Q.1 सुसान 100 पुस्तकों को बांधने का कार्य 20 घंटे में कर सकती है। सुसान तथा प्रगति साथ मिलकर 80 घंटे में 600 पुस्तकों को बांधने का कार्य कर सकती है। प्रगति अकेले 60 पुस्तकों को बांधने का कार्य कितने समय में पूरा कर सकती है?

- Ans 1. 24 घंटे
 2. 6 घंटे
 3. 15 घंटे
 4. 12 घंटे

Question ID : 26433075925
Status : Answered
Chosen Option : 1

Q.2 एक शहर की जनसंख्या पहले 2 वर्षों में 2% की दर से बढ़ती है और फिर तीसरे वर्ष में 4% की दर से घटती है। यदि शहर की वर्तमान जनसंख्या 62,500 है, तो 3 वर्ष बाद जनसंख्या कितनी होगी?

- Ans 1. 62424
 2. 63500
 3. 65424
 4. 62400

Question ID : 26433066245
Status : Answered
Chosen Option : 1

Q.3 एक त्रिभुज की अंतःत्रिज्या 8 cm है और उसकी भुजाओं की लंबाई का योग 60 cm है। त्रिभुज का क्षेत्रफल कितना (cm² में) है?

- Ans 1. 240
 2. 160
 3. 260
 4. 140

Question ID : 26433081049
Status : Answered
Chosen Option : 1

Q.4 यदि रीता और गीता की आय क्रमशः Rs.1,600 और Rs.2,400 है, तो गीता की आय, रीता की आय से कितने प्रतिशत अधिक है?

- Ans 1. 40%
 2. 30%
 3. 50%
 4. 60%

Question ID : 26433075647
Status : Answered
Chosen Option : 3

Q.5 $\frac{1}{2}$, $\frac{1}{3}$ और $\frac{1}{4}$ का चतुर्थानुपाती _____ है।

- Ans
- ✓ 1. $\frac{1}{6}$
 - ✗ 2. $\frac{2}{3}$
 - ✗ 3. $\frac{1}{12}$
 - ✗ 4. $\frac{1}{5}$

Question ID : 26433075492
Status : Answered
Chosen Option : 1

Q.6 यदि $(a - b) : (a + b) = 6 : 14$ है, तो $(4a + 3b) : (4a - 3b)$ अनुपात ज्ञात कीजिए।

- Ans
- ✗ 1. 10 : 7
 - ✗ 2. 11 : 7
 - ✓ 3. 13 : 7
 - ✗ 4. 15 : 7

Question ID : 26433080026
Status : Answered
Chosen Option : 3

Q.7 विनय चावल को उसके क्रय मूल्य पर बेचने का दावा करता है परन्तु 2 kg के स्थान पर 1600 gm के वजन का उपयोग करता है। उसका प्रतिशत लाभ क्या है?

- Ans
- ✗ 1. 26%
 - ✓ 2. 25%
 - ✗ 3. 28%
 - ✗ 4. 27%

Question ID : 26433080311
Status : Answered
Chosen Option : 2

Q.8 A, B और C एक कार्य को क्रमशः 15, 30 और 20 दिनों में पूरा कर सकते हैं। A काम पूरा होने से 1 दिन पहले काम छोड़ता है और B काम पूरा होने से 2 दिन पहले काम छोड़ता है। दिनों की संख्या ज्ञात करें जो पूरे कार्य को पूरा करने के लिए आवश्यक है।

- Ans
- ✗ 1. 75/9 दिन
 - ✗ 2. 88/7 दिन
 - ✗ 3. 84/9 दिन
 - ✓ 4. 68/9 दिन

Question ID : 264330116881
Status : Answered
Chosen Option : 4

Q.9 250 मीटर और 400 मीटर लंबाई की दो ट्रेनें क्रमशः 40 km/h और 30 km/h की चाल से चल रही हैं। यदि वे एक ही दिशा में चल रही हैं, तो वे _____ मिनट में एक-दूसरे को पार करेगी।

- Ans
- 1. 4.8
 - 2. 3.9
 - 3. 5.4
 - 4. 4.2

Question ID : 26433071262
Status : Answered
Chosen Option : 2

Q.10 एक दुकानदार ने गेहूँ Rs.20 प्रति kg और चावल Rs.80 प्रति kg की दर से खरीदा। उसने 80 kg गेहूँ Rs.22 प्रति kg और 20 kg गेहूँ Rs.21 प्रति kg की दर से बेचा। इसके अलावा, उसने 40 kg चावल Rs.95 प्रति kg और 60 kg चावल Rs.93 प्रति kg पर बेचा। इस सौदे में उसका कुल लाभ ज्ञात कीजिए।

- Ans
- 1. Rs.940
 - 2. Rs.1,560
 - 3. Rs.720
 - 4. Rs.890

Question ID : 26433075972
Status : Answered
Chosen Option : 2

Q.11 व्यंजक $x^2 - 9y^2$ का मान क्या है, जब $x = 2.5$ और $y = 0.5$?

- Ans
- 1. 4.25
 - 2. 2.25
 - 3. 4
 - 4. 4.5

Question ID : 26433085418
Status : Answered
Chosen Option : 3

Q.12 2 प्रतिशत कम करने के बाद, एक डाइनिंग सेट की लागत 17640 रुपए होती है। इसका अंकित मूल्य है:

- Ans
- 1. 18000 रुपए
 - 2. 17800 रुपए
 - 3. 17700 रुपए
 - 4. 17900 रुपए

Question ID : 264330116766
Status : Answered
Chosen Option : 1

Q.13 दो शहरों A और B के बीच की दूरी 800 km है। एक ट्रेन A से B तक की यात्रा 60 km प्रति घंटे की चाल से तय करती है और 40 km प्रति घंटे की समान चाल से A पर वापस आती है। पूरी यात्रा के दौरान ट्रेन की औसत चाल ज्ञात कीजिए।

- Ans
- 1. 38 km/h
 - 2. 48 km/h
 - 3. 45 km/h
 - 4. 42 km/h

Question ID : 26433081011
Status : Answered
Chosen Option : 2

Q.14 3 ठोस घन, जिनकी भुजाएँ क्रमशः 3 m, 4 m और 5 m हैं, एक नया घन बनाने के लिए पिघलाए जाते हैं। नए घन का कुल पृष्ठीय क्षेत्रफल _____ होगा।

- Ans
- 1. $116 m^2$
 - 2. $215 m^2$
 - 3. $115 m^2$
 - 4. $216 m^2$

Question ID : 26433081296
Status : Answered
Chosen Option : 4

Q.15 एक उम्मीदवार जो 50 प्रतिशत अंक प्राप्त करता है, वह 100 अंकों से अनुत्तीर्ण हो जाता है, लेकिन एक अन्य उम्मीदवार जिसने 78 प्रतिशत अंक प्राप्त किए हैं, उत्तीर्ण अंक से 30 प्रतिशत अधिक प्राप्त करता है। अधिकतम अंक हैं:

- Ans
- 1. 800
 - 2. 1500
 - 3. 1000
 - 4. 1200

Question ID : 264330116801
Status : Answered
Chosen Option : 3

Q.16 नकद में सेल फोन खरीदने पर एक दुकानदार 7.5% की छूट देता है। सेल फोन का चिह्नित मूल्य रुपये 18000 है। इस लेन-देन में छूट का मान क्या है?

- Ans
- 1. ₹1,350
 - 2. ₹1,300
 - 3. ₹1,200
 - 4. ₹1,250

Question ID : 26433091544
Status : Answered
Chosen Option : 1

Q.17 Rs.18,000 की धनराशि पर 2 वर्षों में वार्षिक रूप से चक्रवृद्धि होकर अर्जित चक्रवृद्धि ब्याज और साधारण ब्याज के बीच का अंतर Rs.720 था। वार्षिक ब्याज दर ज्ञात कीजिए।

- Ans
- 1. 10%
 - 2. 20%
 - 3. 25%
 - 4. 15%

Question ID : 26433073033
Status : Answered
Chosen Option : 2

Q.18 एक व्यक्ति स्थिर जल में 9 km/h की चाल से नाव चला सकता है। 4 km/h की चाल से बहने वाली धारा में उसे एक स्थान पर पहुँचने में और वहाँ से मूल स्थान पर वापस आने में कुल 9 घंटे का समय लगता है। तो बताइए कि मूल स्थान से वह स्थान कितनी दूर है?

- Ans
- 1. 32.5 km
 - 2. 48.5 km
 - 3. 30 km
 - 4. 25.2 km

Question ID : 26433065096
Status : Answered
Chosen Option : 1

Q.19 अरुण ने Rs.175 प्रति कमीज की दर से 3 कमीज और Rs.250 प्रति पतलून की दर से 6 पतलून खरीदे। सभी कपड़ों का औसत मूल्य ज्ञात करें।

- Ans
- 1. Rs.220
 - 2. Rs.235
 - 3. Rs.240
 - 4. Rs.225

Question ID : 26433075055
Status : Answered
Chosen Option : 4

Q.20 $100 \div 10 - [-2 + \{-9 + (3 - 6 \text{ of } 2)\}]$ का मान क्या है?

- Ans
- 1. 0
 - 2. -6
 - 3. 20
 - 4. 30

Question ID : 26433075804
Status : Answered
Chosen Option : 4

Q.1 Select the most appropriate synonym of the given word.

Alight

- Ans 1. Commence
 2. Enlighten
 3. Earn
 4. Descend

Question ID : 26433073462
Status : Not Answered
Chosen Option : --

Q.2 Select the most appropriate ANTONYM of the word given in brackets to fill in the blank.

The boys are very (hyper) _____ today.

- Ans 1. good
 2. tranquil
 3. hungry
 4. naughty

Question ID : 26433090383
Status : Not Answered
Chosen Option : --

Q.3 Select the most appropriate ANTONYM of the given word.

Endurance

- Ans 1. Persistence
 2. Patience
 3. Tolerance
 4. Indolence

Question ID : 26433072669
Status : Not Answered
Chosen Option : --

Q.4 Select the correct pair of homonyms to fill in the blanks.

The river _____ provide a reserve _____ for minerals that enrich the soil's fertility.

- Ans 1. quail, quail
 2. band, band
 3. banks, bank
 4. right, right

Question ID : 26433061049
Status : Not Answered
Chosen Option : --

Q.5 Select the most appropriate synonym of the underlined word in the given sentence.

Nothing equalled the grief I felt at the death of my pet cat.

- Ans
- 1. Freedom
 - 2. Anguish
 - 3. Bondage
 - 4. Fear

Question ID : 26433087918
Status : Not Answered
Chosen Option : --

Q.6 Select the INCORRECTLY spelt word.

- Ans
- 1. Vacuum
 - 2. Trendy
 - 3. Domicile
 - 4. Vacillate

Question ID : 26433074000
Status : Not Answered
Chosen Option : --

Q.7 Select the most appropriate synonym of the given word to fill in the blank in the sentence.

Rigid

The new education scenario is not _____ but practical.

- Ans
- 1. popular
 - 2. flexible
 - 3. dominating
 - 4. stiff

Question ID : 26433060550
Status : Not Answered
Chosen Option : --

Q.8 Select the most appropriate meaning of the given idiom.

It takes two to tango

- Ans
- 1. A conflict where both people are at fault
 - 2. Diagonally across
 - 3. Two people crossing the street together
 - 4. Two people are needed for any game

Question ID : 26433073717
Status : Not Answered
Chosen Option : --

Q.9 The following sentence has been split into four segments. Identify the segment that contains a grammatical error.

The coach said / that Shreyas / had practicing on / the lawn tennis court.

- Ans
- 1. the lawn tennis court
 - 2. had practicing on
 - 3. The coach said
 - 4. that Shreyas

Question ID : 26433086450
Status : Not Answered
Chosen Option : --

Q.10 Select the most appropriate ANTONYM of the given word.

Savage

- Ans
- 1. Tame
 - 2. Bold
 - 3. Robust
 - 4. Wild

Question ID : 26433072205
Status : Not Answered
Chosen Option : --

Q.11 Identify and correct the INCORRECTLY spelt word in the given sentence

The flora and fauna of the Anaimalai hills are uneeque to its region.

- Ans
- 1. unique
 - 2. flaura
 - 3. fona
 - 4. regian

Question ID : 26433072764
Status : Not Answered
Chosen Option : --

Q.12 Select the most appropriate option that can substitute the underlined segment in the given sentence.

When someone waves a white flag, it signifies that they want to tolerate to the other party.

- Ans
- 1. wanted to interrogate
 - 2. wants to tolerate
 - 3. wants to interrupt
 - 4. want to surrender

Question ID : 26433096156
Status : Not Answered
Chosen Option : --

Q.13 Select the most appropriate meaning of the given idiom.

Called for

- Ans 1. To require something
 2. Recollect
 3. Brief visit Refresh
 4. To cast a spell

Question ID : 264330101380
Status : Not Answered
Chosen Option : --

Q.14 Select the most appropriate option that can substitute the underlined segment in the given sentence.

The melodious song reminded Revathi on the nostalgic moments of her past.

- Ans 1. at the nostalgic moments of
 2. of the nostalgic moments at
 3. of the nostalgic moments of
 4. by the nostalgic moments in

Question ID : 26433089309
Status : Not Answered
Chosen Option : --

Q.15 Select the most appropriate option to fill in the blank.

After he finished eating his lunch, the boy sitting next to me _____ intently at me.

- Ans 1. turned
 2. came
 3. shared
 4. stared

Question ID : 26433073616
Status : Not Answered
Chosen Option : --

Comprehension:

In the following passage, some words have been deleted. Read the passage carefully and select the most appropriate option to fill in each blank.

The room looked as though a (1) _____ had swept through it. The storm had blown (2) _____ the French doors during the night, and the wind and the rain had wreaked havoc, (3) _____ everything before it. A few (4) _____ pages of the report lay on the wet rug, but the rest of the pages had obviously been carried (5) _____ by the wind.

SubQuestion No : 16

Q.16 Select the most appropriate option to fill in blank number 1.

- Ans 1. broom
 2. spring
 3. hurricane
 4. dream

Question ID : 26433070784
Status : Not Answered
Chosen Option : --

Comprehension:

In the following passage, some words have been deleted. Read the passage carefully and select the most appropriate option to fill in each blank.

The room looked as though a (1) _____ had swept through it. The storm had blown (2) _____ the French doors during the night, and the wind and the rain had wreaked havoc, (3) _____ everything before it. A few (4) _____ pages of the report lay on the wet rug, but the rest of the pages had obviously been carried (5) _____ by the wind.

SubQuestion No : 17

Q.17 Select the most appropriate option to fill in blank number 2.

- Ans 1. clean
 2. open
 3. broke
 4. closed

Question ID : 26433070785
Status : Not Answered
Chosen Option : --

Comprehension:

In the following passage, some words have been deleted. Read the passage carefully and select the most appropriate option to fill in each blank.

The room looked as though a (1) _____ had swept through it. The storm had blown (2) _____ the French doors during the night, and the wind and the rain had wreaked havoc, (3) _____ everything before it. A few (4) _____ pages of the report lay on the wet rug, but the rest of the pages had obviously been carried (5) _____ by the wind.

SubQuestion No : 18

Q.18 Select the most appropriate option to fill in blank number 3.

- Ans 1. binding
 2. scattering
 3. sharing
 4. saving

Question ID : 26433070786
Status : Not Answered
Chosen Option : --

Comprehension:

In the following passage, some words have been deleted. Read the passage carefully and select the most appropriate option to fill in each blank.

The room looked as though a (1) _____ had swept through it. The storm had blown (2) _____ the French doors during the night, and the wind and the rain had wreaked havoc, (3) _____ everything before it. A few (4) _____ pages of the report lay on the wet rug, but the rest of the pages had obviously been carried (5) _____ by the wind.

SubQuestion No : 19

Q.19 Select the most appropriate option to fill in blank number 4.

- Ans
- 1. read
 - 2. lose
 - 3. tight
 - 4. loose

Question ID : 26433070787

Status : Not Answered

Chosen Option : --

Comprehension:

In the following passage, some words have been deleted. Read the passage carefully and select the most appropriate option to fill in each blank.

The room looked as though a (1) _____ had swept through it. The storm had blown (2) _____ the French doors during the night, and the wind and the rain had wreaked havoc, (3) _____ everything before it. A few (4) _____ pages of the report lay on the wet rug, but the rest of the pages had obviously been carried (5) _____ by the wind.

SubQuestion No : 20

Q.20 Select the most appropriate option to fill in blank number 5.

- Ans
- 1. nearer
 - 2. away
 - 3. over
 - 4. of

Question ID : 26433070788

Status : Not Answered

Chosen Option : --

Section : Part-D-Hindi

Q.1 निम्नलिखित वाक्य में रेखांकित खंड के स्थान पर प्रयुक्त होने वाले सबसे उपयुक्त विकल्प का चयन कीजिए।
मैं बुढ़ापे की और बढ़ रहा हूँ।

- Ans
- 1. जगह
 - 2. साथ
 - 3. और
 - 4. तथा

Question ID : 26433079669

Status : Answered

Chosen Option : 3

Q.2 आज अमावस्या की रात है।
उपरोक्त वाक्य में रेखांकित शब्द के विलोम शब्द का चयन विकल्पों में से कीजिए।

- Ans
- 1. पूर्ण
 - 2. एकादशी
 - 3. काली
 - 4. पूर्णिमा

Question ID : 26433079639
Status : Answered
Chosen Option : 4

Q.3 विकल्पों में दिए गए किस वाक्य में निम्न शब्द के पर्यायवाची शब्द प्रयोग हुआ है?
कमल

- Ans
- 1. तालाब में मरु खिला है।
 - 2. तालाब में पयोद खिला है।
 - 3. तालाब में कटु खिला है।
 - 4. तालाब में सरोज खिला है।

Question ID : 26433091215
Status : Answered
Chosen Option : 4

Q.4 'टाईप करने की कला' वाक्यांश के लिए इनमें से उपयुक्त शब्द कौन-सा है?

- Ans
- 1. टिकाऊ
 - 2. टंकित
 - 3. टंकण
 - 4. टकसाल

Question ID : 26433066892
Status : Answered
Chosen Option : 3

Q.5 'ढिंढोरा पीटना' मुहावरे का क्या अर्थ है?

- Ans
- 1. ढोल बजाना
 - 2. बात करना
 - 3. प्रचार करना
 - 4. जोर-जोर से बात करना

Question ID : 26433066804
Status : Answered
Chosen Option : 3

Q.6 'हित न चाहने वाला' वाक्यांश के लिए एक शब्द क्या होगा?

- Ans
- 1. परमार्थी
 - 2. हितविहीन
 - 3. अनहितू
 - 4. हितेपी

Question ID : 26433070064
Status : Answered
Chosen Option : 3

Q.7 निम्नलिखित वाक्य में रेखांकित एकार्थी शब्दों के उपयुक्त अर्थ बताइए।
बहुत से लोगों का सकल जीवन परमार्थ को समर्पित होता है, जिससे समाज शकल नहीं हो पाता।

- Ans
- 1. पूरा- साथ
 - 2. एक- टुकड़ा
 - 3. कुछ भाग- आधा
 - 4. संपूर्ण- टुकड़ा

Question ID : 26433091328
Status : Answered
Chosen Option : 4

Q.8 निम्नलिखित में से शुद्ध वाक्य कौन सा है?

- Ans
- 1. उसने पांच अम खरीदे।
 - 2. उसने पच आम खरीदे।
 - 3. उसने पांच आम खरीदे।
 - 4. उसने पांच आम खरीद।

Question ID : 26433066832
Status : Answered
Chosen Option : 3

Q.9 दिए गये वाक्यांश के लिए सार्थक शब्द बताइए – 'इतिहास को जानने वाला'

- Ans
- 1. इतिहासज्ञ
 - 2. ऐतिहासिक
 - 3. इतिहासिक
 - 4. इतिहासकार

Question ID : 26433062588
Status : Answered
Chosen Option : 1

Q.10 उसको मुंहमांगी दाम मिलेगा।
उपरोक्त वाक्य के किस शब्द में वर्तनीगत अशुद्धि है?

- Ans
- 1. मिलेगा
 - 2. उसको
 - 3. दाम
 - 4. मुंहमांगी

Question ID : 26433085061
Status : Answered
Chosen Option : 4

Q.11 निम्नलिखित विकल्पों में से किस एक वाक्य में क्रिया सम्बन्धी अशुद्धि है?

- Ans
- 1. उसने नौकरी छोड़ दिया।
 - 2. बर्फ पिघल रही है।
 - 3. तुम देर तक सोते हो।
 - 4. गाड़ी चलती है।

Question ID : 26433062945
Status : Answered
Chosen Option : 1

Q.12 निम्न में से किस वाक्य में 'खून' के सही अनेकार्थी शब्द का प्रयोग हुआ है?

- Ans
- 1. कल विजय की हत्या हो गई।
 - 2. महेश ने शहर से पलायन किया।
 - 3. यह लाल फूल अत्यंत सुन्दर है।
 - 4. विकास वाचनालय में पढ़ रहा था।

Question ID : 26433085144
Status : Answered
Chosen Option : 1

Q.13 संयुक्त वाक्य - 'ये भी अच्छे हैं और वे भी अच्छे हैं।' निम्नलिखित विकल्पों में से इस वाक्य के लिए कौन सा एक उचित सरल वाक्य होगा?

- Ans
- 1. यह अच्छे हैं वे अच्छे हैं।
 - 2. सब अच्छे हैं और बुरे हैं।
 - 3. सब अच्छे हैं।
 - 4. सब बुरे हैं।

Question ID : 26433062442
Status : Answered
Chosen Option : 3

Q.14 निम्नलिखित मुहावरे के उचित अर्थ का चयन कीजिए-
अढ़ाई दिन की हुकूमत

- Ans
- 1. राज्य के बाहर शासन करना
 - 2. लंबी हुकूमत
 - 3. सामान्य शासन
 - 4. कुछ दिनों की शानोशौकत

Question ID : 26433065885
Status : Answered
Chosen Option : 4

Q.15 प्रभावी शिक्षकों का गुच्छा आ रहा है।
उपरोक्त वाक्य के किस संज्ञा पद में त्रुटि है?

- Ans
- 1. आ रहा है
 - 2. शिक्षकों का
 - 3. गुच्छा
 - 4. प्रभावी

Question ID : 26433063026
Status : Answered
Chosen Option : 3

Comprehension:

निम्नलिखित गद्यांश में कुछ शब्दों को हटा दिया गया है। दिए गए विकल्पों की सहायता से रिक्त स्थानों की पूर्ति कीजिए। प्रत्येक संख्या के लिए सबसे उपयुक्त विकल्प का चयन करें।
'पुस्तक' तथा 'आलय' इन दो शब्दों से मिलकर 'पुस्तकालय' 1. _____ बना है। आलय शब्द 2. _____ का सूचक है। पुस्तकालय वह स्थान है जहाँ पुस्तकों को 3. _____ जाता है। पुस्तक ज्ञान का 4. _____ होती है। अतः पुस्तकालय वह स्थान है जहाँ से पुस्तकें लेकर तथा उन्हें पढ़कर हम 5. _____ बनते हैं।

SubQuestion No : 16

Q.16 रिक्त स्थान 1 की पूर्ति के लिए सबसे उपयुक्त विकल्प का चयन कीजिए।

- Ans
- 1. शब्द
 - 2. दुर्लभ
 - 3. वर्ग
 - 4. कक्ष

Question ID : 264330110963
Status : Answered
Chosen Option : 1

Comprehension:

निम्नलिखित गद्यांश में कुछ शब्दों को हटा दिया गया है। दिए गए विकल्पों की सहायता से रिक्त स्थानों की पूर्ति कीजिए। प्रत्येक संख्या के लिए सबसे उपयुक्त विकल्प का चयन करें।

'पुस्तक' तथा 'आलय' इन दो शब्दों से मिलकर 'पुस्तकालय' 1. _____ बना है। आलय शब्द 2. _____ का सूचक है। पुस्तकालय वह स्थान है जहाँ पुस्तकों को 3. _____ जाता है। पुस्तक ज्ञान का 4. _____ होती है। अतः पुस्तकालय वह स्थान है जहाँ से पुस्तकें लेकर तथा उन्हें पढ़कर हम 5. _____ बनते हैं।

SubQuestion No : 17

Q.17 रिक्त स्थान 2 की पूर्ति के लिए सबसे उपयुक्त विकल्प का चयन कीजिए।

- Ans 1. घर
 2. जानकारी
 3. पुस्तकों
 4. ज्ञान

Question ID : 264330110964

Status : Answered

Chosen Option : 1

Comprehension:

निम्नलिखित गद्यांश में कुछ शब्दों को हटा दिया गया है। दिए गए विकल्पों की सहायता से रिक्त स्थानों की पूर्ति कीजिए। प्रत्येक संख्या के लिए सबसे उपयुक्त विकल्प का चयन करें।

'पुस्तक' तथा 'आलय' इन दो शब्दों से मिलकर 'पुस्तकालय' 1. _____ बना है। आलय शब्द 2. _____ का सूचक है। पुस्तकालय वह स्थान है जहाँ पुस्तकों को 3. _____ जाता है। पुस्तक ज्ञान का 4. _____ होती है। अतः पुस्तकालय वह स्थान है जहाँ से पुस्तकें लेकर तथा उन्हें पढ़कर हम 5. _____ बनते हैं।

SubQuestion No : 18

Q.18 रिक्त स्थान 3 की पूर्ति के लिए सबसे उपयुक्त विकल्प का चयन कीजिए।

- Ans 1. रखा
 2. लाभ
 3. पढ़ना
 4. देखा

Question ID : 264330110965

Status : Answered

Chosen Option : 1

Comprehension:

निम्नलिखित गद्यांश में कुछ शब्दों को हटा दिया गया है। दिए गए विकल्पों की सहायता से रिक्त स्थानों की पूर्ति कीजिए। प्रत्येक संख्या के लिए सबसे उपयुक्त विकल्प का चयन करें।

'पुस्तक' तथा 'आलय' इन दो शब्दों से मिलकर 'पुस्तकालय' 1. _____ बना है। आलय शब्द 2. _____ का सूचक है। पुस्तकालय वह स्थान है जहाँ पुस्तकों को 3. _____ जाता है। पुस्तक ज्ञान का 4. _____ होती है। अतः पुस्तकालय वह स्थान है जहाँ से पुस्तकें लेकर तथा उन्हें पढ़कर हम 5. _____ बनते हैं।

SubQuestion No : 19

Q.19 रिक्त स्थान 4 की पूर्ति के लिए सबसे उपयुक्त विकल्प का चयन कीजिए।

- Ans 1. भंडार
 2. कार्य
 3. अनिवार्य
 4. शुल्क

Question ID : 264330110966

Status : Answered

Chosen Option : 1

Comprehension:

निम्नलिखित गद्यांश में कुछ शब्दों को हटा दिया गया है। दिए गए विकल्पों की सहायता से रिक्त स्थानों की पूर्ति कीजिए। प्रत्येक संख्या के लिए सबसे उपयुक्त विकल्प का चयन करें।

'पुस्तक' तथा 'आलय' इन दो शब्दों से मिलकर 'पुस्तकालय' 1. _____ बना है। आलय शब्द 2. _____ का सूचक है। पुस्तकालय वह स्थान है जहाँ पुस्तकों को 3. _____ जाता है। पुस्तक ज्ञान का 4. _____ होती है। अतः पुस्तकालय वह स्थान है जहाँ से पुस्तकें लेकर तथा उन्हें पढ़कर हम 5. _____ बनते हैं।

SubQuestion No : 20

Q.20 रिक्त स्थान 5 की पूर्ति के लिए सबसे उपयुक्त विकल्प का चयन कीजिए।

- Ans 1. सामान्य
 2. ज्ञानी
 3. पढ़ाकू
 4. प्रत्यक्ष

Question ID : 264330110967

Status : Answered

Chosen Option : 2

KD Job Updates

Constable GD in CAPFs SSF Rifleman GD in Assam Rifles and Sepoy in NCB Examination 2022

Roll Number	KD Job Updates
Candidate Name	KD Job Updates
Venue Name	iON Digital Zone iDZ5 Patliputra
Exam Date	30/01/2023
Exam Time	5:15 PM - 6:15 PM
Subject	Constable GD Examination 2022

Section : Part-A-General Intelligence and Reasoning

Q.1 निम्नलिखित में से कौन-सा पद दी गई श्रृंखला में प्रश्न-चिह्न (?) के स्थान पर आएगा?
?, CSAT, BPVM, AMQF, ZJLY

- Ans
- 1. VDFB
 - 2. AVRF
 - 3. DVFA
 - 4. FVDA

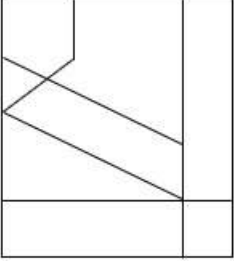
Question ID : 26433068988

Status : Answered

Chosen Option : 3

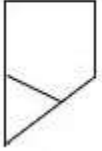
Q.2 वह विकल्प चित्र चुनिए, जो प्रस्तुत चित्र में अंतर्निहित है। (घुमाना अनुमन्य नहीं

है)

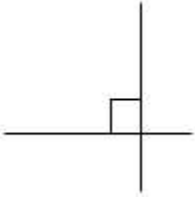


Ans

✓ 1.



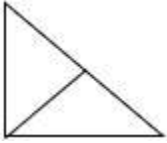
✗ 2.



✗ 3.



✗ 4.



Question ID : 26433069352

Status : Answered

Chosen Option : 1

Q.3 उस विकल्प का चयन कीजिए जो तीसरे शब्द से उसी प्रकार संबंधित है जिस प्रकार दूसरा शब्द पहले शब्द से संबंधित है। (शब्दों को अर्थपूर्ण शब्दों के रूप में मानना है और उन्हें शब्द में अक्षरों/व्यंजनों/स्वरों की संख्या के आधार पर एक-दूसरे से संबंधित नहीं करना है।)

काँस्मोलॉजी : ब्रह्मांड :: माँफ़ोलॉजी : _____

Ans

✗ 1. वृक्षों

✗ 2. रेडियो

✗ 3. कार्यप्रणाली

✓ 4. सजीवों की संरचना

Question ID : 26433078826

Status : Answered

Chosen Option : 4

Q.4 छः विद्यार्थी - तान्या, रूप, जौहर, सोमा, मानवी और दीप एक वृत्ताकार मेज के परितः केंद्र की ओर मुख करके बैठे हैं। सोमा, दीप के दाईं ओर दूसरे स्थान पर बैठी है। सोमा, मानवी और जौहर दोनों के ठीक बगल में है। रूप, जौहर के बाईं ओर दूसरे स्थान पर बैठा है। दीप, जौहर और रूप दोनों के ठीक बगल में है। इनमें से कौन तान्या और दीप के ठीक बगल में बैठा/बैठी है?

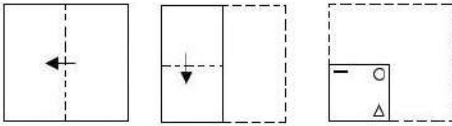
- Ans
- 1. सोमा
 - 2. रूप
 - 3. मानवी
 - 4. जौहर

Question ID : 26433069128

Status : Answered

Chosen Option : 2

Q.5 एक कागज को नीचे दर्शाए गए अनुसार मोड़ा और काटा जाता है। खोले जाने पर यह कैसा दिखाई देगा?



Ans

- 1.
- 2.
- 3.
- 4.

Question ID : 26433090088

Status : Answered

Chosen Option : 3

Q.6 उस विकल्प का चयन कीजिए जो पांचवें अक्षर-समूह से उसी प्रकार संबंधित है जिस प्रकार दूसरा अक्षर-समूह पहले अक्षर-समूह से संबंधित है और चौथा अक्षर-समूह तीसरे अक्षर-समूह से संबंधित है।
HALF: SFOT :: DAMP: WFNJ :: AREA: ?

- Ans 1. ZIVZ
 2. ZWVY
 3. YMJZ
 4. FWJY

Question ID : 26433057490
Status : Answered
Chosen Option : 2

Q.7 दिए गए समीकरण को संतुलित करने के लिए इसमें किन दो संख्याओं(अंकों को नहीं) और किन दो चिह्नों को आपस में बदला जाना चाहिए?
 $100 \times 5 - 110 \div 2 + 12 = 210$

- Ans 1. 2 और 12; \times और +
 2. 5 और 2; + और -
 3. 12 और 5; \times और -
 4. 2 और 12; \div और \times

Question ID : 26433092745
Status : Answered
Chosen Option : 2

Q.8 एक निश्चित कूट भाषा में, 'DESIGN' को 'TFEPIK' के रूप में लिखा जाता है और 'DESIRE' को 'TFEGTK' के रूप में लिखा जाता है। उसी भाषा में 'DEVICE' को किस प्रकार लिखा जाएगा?

- Ans 1. ECIVED
 2. VEDGEK
 3. VEDECI
 4. WFEGEK

Question ID : 26433090041
Status : Answered
Chosen Option : 2

Q.9 नीचे दिए गए समीकरण को गणितीय रूप से सही बनाने के लिए किन दो चिह्नों को परस्पर बदलना चाहिए?
 $64 - 16 \times 25 \div 80 + 10 = 59$

- Ans 1. - और +
 2. \div और \times
 3. \times और -
 4. \div और -

Question ID : 264330117508
Status : Answered
Chosen Option : 1

Q.10

दर्पण को नीचे दिए गए चित्र के अनुसार MN पर रखे जाने पर दी गई आकृति का दर्पण में निर्मित सही प्रतिबिंब चयनित कीजिए।

F G R z c 6 n W

M ————— N

Ans

- ✗ 1. **E C B Z C 9 U M**
- ✗ 2. **E G Y Z C e U M**
- ✓ 3. **E C B Z C e U M**
- ✗ 4. **W n θ c z R G F**

Question ID : 26433080800

Status : Answered

Chosen Option : 3

Q.11 उस समुच्चय का चयन करें, जिसमें संख्याएँ उसी प्रकार संबंधित हैं, जिस प्रकार निम्नलिखित समुच्चयों की संख्याएँ हैं।

(नोट: संख्याओं को उसके घटक अंकों में विभाजित किए बिना, पूर्ण संख्याओं पर ही गणितीय संक्रियाएँ की जानी चाहिए। जैसे 13 - मान लीजिए 13 पर गणितीय संक्रियाएँ जैसे कि 13 में जोड़ना/घटाना/गुणा करना आदि किया जा सकता है। 13 को 1 और 3 में तोड़कर और फिर 1 और 3 पर गणितीय संक्रियाएँ करने की अनुमति नहीं है।)

(10, 300, 40)

(12, 192, 20)

Ans

- ✗ 1. (16, 226, 30)
- ✓ 2. (18, 228, 20)
- ✗ 3. (20, 160, 10)
- ✗ 4. (17, 156, 12)

Question ID : 26433076483

Status : Answered

Chosen Option : 3

Q.12 दिए गए विकल्पों में से उस अक्षर-समूह का चयन कीजिए जो निम्न श्रृंखला में प्रश्न-चिह्न (?) के स्थान पर आ सकता है।

WGVJ, CCBP, IYHV, ?, UQTH

Ans

- ✗ 1. UMBR
- ✗ 2. OMNB
- ✓ 3. OUNB
- ✗ 4. UOME

Question ID : 26433074736

Status : Answered

Chosen Option : 3

Q.13 A @ B का अर्थ है 'A, B का पति है'।
A & B का अर्थ है 'A, B की माता है'।
A # B का अर्थ है 'A, B की पुत्री है'।
A % B का अर्थ है 'A, B की बहन है'।
यदि R # L % G @ V & P है, तो L, P से किस प्रकार संबंधित है?

- Ans
- ✓ 1. बुआ
 - ✗ 2. सास या ससुर
 - ✗ 3. दादा/दादी
 - ✗ 4. मौसी

Question ID : 26433069617
Status : Answered
Chosen Option : 1

Q.14 इस प्रश्न में तीन कथन दिए गए हैं, जिसके बाद दो निष्कर्ष I और II दिए गए हैं। कथनों को सत्य मानते हुए, भले ही वे सर्वज्ञात तथ्यों से भिन्न प्रतीत होते हों, निर्णय कीजिए कि कौन-सा/से निष्कर्ष कथनों का तार्किक रूप से अनुसरण करता है/अनुसरण करते हैं।

कथन:

कुछ कुर्सियाँ बेडशीट हैं।

सभी खाटें कुर्सियाँ हैं।

सभी तकिए बेडशीट हैं।

निष्कर्ष:

I. कुछ तकिए कुर्सियाँ हैं।

II. कुछ खाटें बेडशीट हैं।

- Ans
- ✗ 1. निष्कर्ष I और II दोनों अनुसरण करते हैं।
 - ✓ 2. न तो निष्कर्ष I और न ही II अनुसरण करता है।
 - ✗ 3. केवल निष्कर्ष II अनुसरण करता है।
 - ✗ 4. केवल निष्कर्ष I अनुसरण करता है।

Question ID : 26433070389
Status : Answered
Chosen Option : 2

Q.15 एक निश्चित कूट भाषा में, FLAME को 'LPGQK' लिखा जाता है, और BURNT को 'HYXRZ' लिखा जाता है। उसी कूट भाषा में 'FRIED' को किस प्रकार लिखा जाएगा?

- Ans
- ✗ 1. LVOJK
 - ✗ 2. LWPIJ
 - ✗ 3. LVPIJ
 - ✓ 4. LVOIJ

Question ID : 26433067991
Status : Answered
Chosen Option : 4

Q.16 छः व्यक्ति A, B, C, D, E और F एक वृत्ताकार मेज के परितः मेज के केंद्र की ओर मुख करके बैठे हैं। C, E के बाईं ओर दूसरे स्थान पर बैठा है। B, E और F के ठीक बगल में बैठा है। A, B के दाईं ओर दूसरे स्थान पर बैठा है। B के दाईं ओर से गणना करने पर, B और A के बीच में कौन बैठा है?

Ans 1. D

2. C

3. E

4. F

Question ID : 26433081516

Status : Answered

Chosen Option : 4

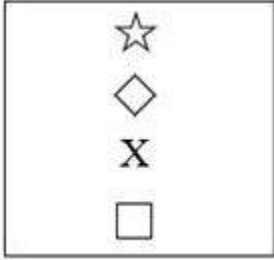
KD Job Updates

Q.17 दिए गए विकल्पों में से उस आकृति का चयन करें जो निम्न श्रृंखला में प्रश्नवाचक चिन्ह (?) के स्थान पर आ सकती है।

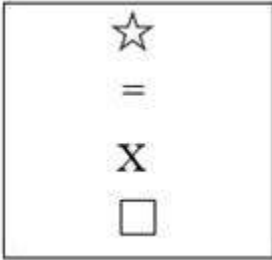
△	↑	=	
☆	□	X	
=	☆	□	?
↑	=	☆	

Ans

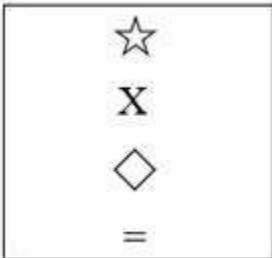
✓ 1.



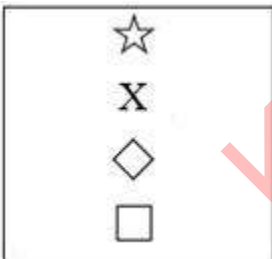
✗ 2.



✗ 3.



✗ 4.



KD Job Updates

Question ID : 26433080758

Status : Answered

Chosen Option : 2

Q.18 निम्नलिखित में से कौन-सी संख्या दी गई श्रृंखला में प्रश्न चिह्न (?) के स्थान पर आएगी?
0, 7, 26, 63, ?

- Ans 1. 69
 2. 124
 3. 81
 4. 120

Question ID : 26433082734
Status : Answered
Chosen Option : 2

Q.19 उस विकल्प का चयन कीजिए जो नीचे दिए गए शब्दों के उस क्रम को निरूपित करता है जिस क्रम में वे अंग्रेजी शब्दकोश में आते हैं।

1. HALOGEN
2. HAIRY
3. HAIKU
4. HAND
5. HAMPER
6. HANK

- Ans 1. 3, 2, 1, 5, 4, 6
 2. 4, 3, 1, 2, 5, 6
 3. 2, 3, 1, 5, 4, 6
 4. 3, 1, 2, 4, 5, 6

Question ID : 26433079378
Status : Answered
Chosen Option : 1

Q.20 निम्न श्रृंखला में प्रश्न-चिह्न (?) के स्थान पर कौन सी संख्या आएगी?
182, 132, 90, 56, ?, 12, 2

- Ans 1. 52
 2. 24
 3. 30
 4. 36

Question ID : 26433068474
Status : Answered
Chosen Option : 3

Section : Part-B-General Knowledge and General awareness

Q.1 कथक के प्रमुख विषय हिंदू धर्म के निम्नलिखित में से किस पंथ से जुड़े हैं?

- Ans 1. शक्तिवाद
 2. शैववाद
 3. बौद्ध धर्म
 4. वैष्णववाद

Question ID : 26433086627
Status : Answered
Chosen Option : 2

Q.2 गद्दाम पद्मजा रेड्डी को किस नृत्य शैली में उनके योगदान से लिए पद्म श्री से सम्मानित किया गया?

- Ans
- 1. कुचिपुडी
 - 2. भरतनाट्यम
 - 3. लावणी
 - 4. कथकली

Question ID : 264330115823

Status : Answered

Chosen Option : 1

Q.3 भारत में लागू की गई अंतिम पंचवर्षीय योजना कौन सी है?

- Ans
- 1. बारहवीं
 - 2. ग्यारहवीं
 - 3. दसवीं
 - 4. तेरहवीं

Question ID : 264330116122

Status : Answered

Chosen Option : 1

Q.4 कैप्टन रूप सिंह स्टेडियम निम्नलिखित में से किस शहर में स्थित है?

- Ans
- 1. जबलपुर
 - 2. इंदौर
 - 3. ग्वालियर
 - 4. जयपुर

Question ID : 264330116251

Status : Answered

Chosen Option : 4

Q.5 निम्नलिखित में से कौन एक पेशेवर टेबल टेनिस खिलाड़ी है?

- Ans
- 1. सौरव घोषाल
 - 2. मनिका बत्रा
 - 3. पारुपल्ली कश्यप
 - 4. अपर्णा पोपट

Question ID : 264330115947

Status : Answered

Chosen Option : 1

Q.6 निम्नलिखित त्यौहारों में से किसे डाला पूजा के रूप में भी जाना जाता है, जो सूर्य की पूजा को समर्पित है और बिहार के लोगों द्वारा पारंपरिक रूप से मनाया जाता है?

- Ans
- 1. सामा चकेवा
 - 2. मधुश्रावणी
 - 3. बिहुला
 - 4. छठ पूजा

Question ID : 264330115126
Status : Answered
Chosen Option : 4

Q.7 भारतीय संविधान का कौन सा अनुच्छेद अल्पसंख्यक-वर्ग के हितों के संरक्षण से संबंधित है?

- Ans
- 1. 33
 - 2. 29
 - 3. 31
 - 4. 27

Question ID : 26433089945
Status : Not Answered
Chosen Option : --

Q.8 मार्च 2022 में, वन अनुसंधान संस्थान के निदेशक के रूप में किसे नियुक्त किया गया?

- Ans
- 1. विकास राणा
 - 2. अजय ठाकुर
 - 3. अरुण सिंह रावत
 - 4. रेणु सिंह

Question ID : 264330114998
Status : Answered
Chosen Option : 4

Q.9 भारत का वित्त आयोग अपनी रिपोर्ट _____ को प्रस्तुत करता है।

- Ans
- 1. नीति आयोग के प्रमुख
 - 2. भारत के वित्त मंत्री
 - 3. भारत के प्रधानमंत्री
 - 4. भारत के राष्ट्रपति

Question ID : 26433090672
Status : Answered
Chosen Option : 2

Q.10 1757 का वर्ष भारत में अंग्रेजी ईस्ट इंडिया कंपनी के लिए एक महत्वपूर्ण वर्ष क्यों था?

- Ans
- 1. 1757 में प्लासी की लड़ाई में नवाब सिराजुद्दौला को हराकर अंग्रेजी ईस्ट इंडिया कंपनी ने बंगाल पर अधिकार कर लिया।
 - 2. 1757 में प्लासी की लड़ाई में निजाम को हराकर अंग्रेजी ईस्ट इंडिया कंपनी ने हैदराबाद पर अधिकार कर लिया।
 - 3. 1757 में बरार की लड़ाई में नवाब सिराजुद्दौला को हराकर अंग्रेजी ईस्ट इंडिया कंपनी ने अवध पर अधिकार कर लिया।
 - 4. 1757 में प्लासी की लड़ाई में नवाब सिराजुद्दौला को हराकर अंग्रेजी ईस्ट इंडिया कंपनी ने मद्रास पर अधिकार कर लिया।

Question ID : 26433091464

Status : Answered

Chosen Option : 4

Q.11 रबी फसलों की खेती में निम्न में से क्या सहायक होता है?

- Ans
- 1. उत्तर-पश्चिमी पवनें
 - 2. महावत
 - 3. दक्षिण-पूर्वी व्यापारिक पवनें
 - 4. पश्चिमी जेट धाराएं

Question ID : 26433087884

Status : Answered

Chosen Option : 4

Q.12 _____ (NRLM) भारत सरकार द्वारा कार्यान्वित एक गरीबी उन्मूलन परियोजना है।

- Ans
- 1. राष्ट्रीय राशन आजीविका मिशन
 - 2. राष्ट्रीय ग्रामीण भूमि मिशन
 - 3. राष्ट्रीय ग्रामीण आजीविका मिशन
 - 4. राष्ट्रीय ग्रामीण जीवन मिशन

Question ID : 264330116169

Status : Not Answered

Chosen Option : --

Q.13 सायकस और पाइनस किस प्रकार के पौधे हैं?

- Ans
- 1. जिम्नोस्पर्म
 - 2. एंजियोस्पर्म
 - 3. टेरिडोफ़ाइटा
 - 4. थैलोफ़ाइटा

Question ID : 264330115206

Status : Not Answered

Chosen Option : --

Q.14 एक माइक्रोफाइनेंस ऋण को एक संपार्श्विक-मुक्त ऋण के रूप में परिभाषित किया गया है, जो उस परिवार को दिया जाता है जिसकी वार्षिक पारिवारिक आय रुपये _____ तक है।

- Ans
- 1. 600000
 - 2. 400000
 - 3. 500000
 - 4. 300000

Question ID : 264330115295
Status : Answered
Chosen Option : 3

Q.15 2011 की जनगणना के अनुसार किस राज्य का लिंगानुपात सबसे कम है?

- Ans
- 1. महाराष्ट्र
 - 2. राजस्थान
 - 3. हरियाणा
 - 4. बिहार

Question ID : 264330116032
Status : Answered
Chosen Option : 3

Q.16 निम्नलिखित में से कौन सा कथन गलत है?

- Ans
- 1. द्रव्य की बूंदों का गोलाकार आकार द्रव्यों में पृष्ठ तनाव के गुण के कारण होता है।
 - 2. बर्फ का गलनांक दाब घटने से घटता है।
 - 3. वाष्पीकरण केवल द्रव्यों की सतह पर होता है।
 - 4. अधिक ऊंचाई पर तरल कम तापमान पर उबलता है, क्योंकि उच्च ऊंचाई पर वायुमंडलीय दबाव कम होता है।

Question ID : 264330115180
Status : Answered
Chosen Option : 3

Q.17 एमएस स्वामीनाथन (भारत में हरित क्रांति के जनक), पेशे से एक _____ थे।

- Ans
- 1. न्यायाधीश
 - 2. पुलिस अधिकारी
 - 3. वैज्ञानिक
 - 4. सेना अधिकारी

Question ID : 264330115423
Status : Answered
Chosen Option : 3

Q.18 किस केंद्रीय राज्य मंत्री ने सितंबर 2022 में चौथे राष्ट्रीय युवा पुलिस अधीक्षक सम्मेलन और पुलिस एक्सपो के उद्घाटन समारोह को संबोधित किया?

- Ans
- 1. मीनाक्षी लेखी
 - 2. अर्जुन मुंडा
 - 3. विश्वेश्वर टुडू
 - 4. नित्यानंद राय

Question ID : 264330114961
Status : Not Answered
Chosen Option : --

Q.19 किस वंश के शासक ने 999 में कंदारिया महादेव मंदिर का निर्माण करवाया था?

- Ans
- 1. चंदेल
 - 2. नंदा
 - 3. सुंग
 - 4. गुप्ता

Question ID : 264330106593
Status : Answered
Chosen Option : 1

Q.20 निम्नलिखित में से कौन-सा कृषि का उत्पाद है?

- Ans
- 1. फसलें
 - 2. हवा
 - 3. मशीनें
 - 4. पानी

Question ID : 264330115542
Status : Answered
Chosen Option : 1

Section : Part-C-Elementary Mathematics

Q.1 वह छोटी से छोटी संख्या, जिसमें से 5 घटाने पर 12, 16 और 18 से विभाज्य हो जाती है, _____ है।

- Ans
- 1. 173
 - 2. 161
 - 3. 149
 - 4. 137

Question ID : 26433082346
Status : Answered
Chosen Option : 3

Q.2 मोहन 20 km/h की चाल से घर से कार्यालय जाता है और एक निश्चित चाल से कार्यालय से घर लौटता है। यदि औसत चाल 24 km/h है, तो लौटते समय उसकी चाल क्या होगी?

- Ans 1. 30 km/h
 2. 32 km/h
 3. 28 km/h
 4. 26 km/h

Question ID : 26433075690
Status : Answered
Chosen Option : 1

Q.3 यदि $x = 3$ है, तो $7x - 1$, $9x + 5$ और $8x + 1$ का चतुर्थानुपाती ज्ञात कीजिए।

- Ans 1. 40
 2. 50
 3. 60
 4. 30

Question ID : 26433080183
Status : Answered
Chosen Option : 1

Q.4 यदि एक बेलन की ऊंचाई को अपरिवर्तित रखते हुए उसकी त्रिज्या को 20% बढ़ा दिया जाता है, तो बेलन के आयतन में कितने प्रतिशत की वृद्धि होती है?

- Ans 1. 24%
 2. 44%
 3. 50%
 4. 40%

Question ID : 26433083060
Status : Answered
Chosen Option : 2

Q.5 मोहन 1500 मीटर परिधि वाले वृत्ताकार ट्रैक पर चलता है। यदि मोहन की चाल 75 metre/min है, तो मोहन द्वारा ट्रैक के एक चक्कर को पूरा करने में कितना समय लगेगा?

- Ans 1. 22 मिनट
 2. 20 मिनट
 3. 18 मिनट
 4. 15 मिनट

Question ID : 26433075699
Status : Answered
Chosen Option : 2

Q.6 एक कार्य को A और B मिलकर 12 दिनों में, B और C मिलकर 15 दिनों में, C और A मिलकर 20 दिनों में पूरा कर सकते हैं। यदि A, B और C एक साथ कार्य करते हैं, तो उस कार्य को पूरा करने के लिए कितने दिनों की आवश्यकता होगी?

- Ans
- 1. 5
 - 2. 7
 - 3. 7.5
 - 4. 10

Question ID : 26433076205

Status : Answered

Chosen Option : 4

Q.7 समान क्षमता वाले दो पात्रों में दूध और पानी का अनुपात क्रमशः 3 : 4 और 3 : 1 है। यदि दोनों पात्रों को एक ऐसे बड़े पात्र में खाली कर दिया जाता है, जिसमें पूरे मिश्रण को समाहित करने की क्षमता है, तो बड़े पात्र में दूध और पानी का अनुपात क्या होगा?

- Ans
- 1. 23 : 11
 - 2. 33 : 21
 - 3. 33 : 23
 - 4. 32 : 31

Question ID : 26433076394

Status : Answered

Chosen Option : 3

Q.8 एक आदमी अपनी आय का 87% खर्च करता है। उसकी आय में 18% की वृद्धि हुई और उसने अपने व्यय में 17% की वृद्धि की। इसके बाद उसकी बचत में _____ की वृद्धि होगी। (केवल दो दशमलव तक विचार करें)

- Ans
- 1. 18.54%
 - 2. 29.2%
 - 3. 27.32%
 - 4. 24.69%

Question ID : 26433076266

Status : Answered

Chosen Option : 4

Q.9 किसी कक्षा में 60 छात्रों द्वारा एक विषय में प्राप्त औसत अंक 82 हैं। उस विषय में लड़कों और लड़कियों के औसत अंक क्रमशः 75 और 85 हैं। कक्षा में लड़कों की संख्या कितनी है?

- Ans
- 1. 30
 - 2. 32
 - 3. 18
 - 4. 26

Question ID : 26433076263

Status : Marked For Review

Chosen Option : 4

Q.10 A और B 330 रुपए के लिए एक कार्य करना आरम्भ करते हैं। A इसे 11 दिनों में कर सकता है और B इसे 22 दिनों में कर सकता है। C की सहायता से वे इसे 6 दिनों में समाप्त कर देते हैं। C को उसके काम के लिए कितना भुगतान किया जाना चाहिए?

- Ans
- 1. 60 रुपए
 - 2. 80 रुपए
 - 3. 70 रुपए
 - 4. 140 रुपए

Question ID : 264330116853

Status : Answered

Chosen Option : 1

Q.11 दो वर्षों में 4% प्रति वर्ष की दर से ₹ 20,000 पर चक्रवृद्धि ब्याज (₹ में, दो दशमलव स्थानों तक पूर्णांकित) क्या होगा, जबकि ब्याज अर्ध-वार्षिक रूप से चक्रवृद्धि किया जा रहा है?

- Ans
- 1. 1600.00
 - 2. 1548.64
 - 3. 1500.00
 - 4. 1648.64

Question ID : 26433075559

Status : Answered

Chosen Option : 4

Q.12 उस घन का आयतन (cm^3 में) क्या होगा, जिसके सबसे लंबे विकर्ण का माप $11\sqrt{3}$ cm है?

- Ans
- 1. 1331
 - 2. 1000
 - 3. 121
 - 4. 144

Question ID : 26433075007

Status : Answered

Chosen Option : 1

Q.13 नीता के वेतन में पहले 13% की वृद्धि की जाती है और पुनः 13% कम कर दी जाती है। उसके वेतन में कितना परिवर्तन हुआ है?

- Ans
- 1. 1.69% की वृद्धि
 - 2. 16.9% की वृद्धि
 - 3. 16.9% की कमी
 - 4. 1.69% की कमी

Question ID : 26433074918

Status : Answered

Chosen Option : 4

Q.14 10%, 15% और 20% की तीन क्रमिक छूट के समतुल्य एकल छूट क्या है?

Ans 1. 38.8%

2. 33.7%

3. 35.8%

4. 39.7%

Question ID : 26433061382

Status : Answered

Chosen Option : 1

Q.15 लक्ष्मण अपने माल पर क्रय मूल्य से 60% अधिक अंकित करता है और 20% की छूट देता है। उसका लाभ/हानि प्रतिशत क्या है?

Ans 1. 28% लाभ

2. 30% लाभ

3. 30% हानि

4. 28% हानि

Question ID : 26433075231

Status : Answered

Chosen Option : 1

Q.16 एक दुकानदार अपने सामान पर क्रय मूल्य से 12 प्रतिशत अधिक मूल्य अंकित करता है, लेकिन नकद पर 12 प्रतिशत की छूट देता है। उसका शुद्ध लाभ या हानि प्रतिशत है:

Ans 1. न कोई लाभ और न ही हानि

2. 1.5 प्रतिशत लाभ

3. 1.44 प्रतिशत हानि

4. 1 प्रतिशत हानि

Question ID : 264330116738

Status : Answered

Chosen Option : 3

Q.17 दो वस्तुओं में से प्रत्येक को ₹9,900 में बेचा गया। एक वस्तु को 10% की हानि पर बेचा गया और दूसरी वस्तु को 10% के लाभ पर बेचा गया। पूरे लेन-देन में शुद्ध लाभ या हानि ज्ञात करें।

Ans 1. हानि ₹200

2. लाभ ₹1,000

3. लाभ ₹100

4. हानि ₹600

Question ID : 26433081561

Status : Answered

Chosen Option : 1

Q.18 अनुपम ने ₹2,00,000 के प्रारंभिक निवेश के साथ एक व्यवसाय शुरू किया। पहले वर्ष में, उसे 4% की हानि हुई। हालांकि, दूसरे वर्ष के दौरान, उसे 10% का लाभ हुआ, और तीसरे वर्ष में उसे 15% का लाभ हुआ। तीन वर्षों की पूरी अवधि के लिए उसके शुद्ध लाभ की गणना कीजिए।

- Ans
- 1. ₹42,530
 - 2. ₹42,880
 - 3. ₹42,808
 - 4. ₹42,503

Question ID : 26433076231
Status : Answered
Chosen Option : 2

Q.19 यदि Rs. X 10 पेन की कीमत है, जिसकी कीमत Rs.42 प्रति दर्जन है और Y घंटे 12.5 किमी/घंटा पर 175 किमी की यात्रा करने में लगने वाला समय है, तो $X^2 + Y^2$ का मान है:

- Ans
- 1. 1421
 - 2. 1850
 - 3. 724
 - 4. 881

Question ID : 26433075319
Status : Answered
Chosen Option : 1

Q.20 दो संख्याएँ 2:3 के अनुपात में हैं। उनके महत्तम समापवर्तक (HCF) और लघुत्तम समापवर्तक (LCM) क्रमशः 21 और 126 हैं। इन दोनों संख्याओं का कितना अंतर है?

- Ans
- 1. 21
 - 2. 25
 - 3. 18
 - 4. 20

Question ID : 26433080272
Status : Answered
Chosen Option : 1

Section : Part-D-English

Q.1 Select the most appropriate ANTONYM of the given word.
Blank

- Ans
- 1. Filled
 - 2. Trembled
 - 3. Valuate
 - 4. Filed

Question ID : 26433066090
Status : Not Answered
Chosen Option : --

Q.2 Select the most appropriate option that can substitute the underlined segment in the given sentence.

If you not ready with the song, it is better to let them know.

- Ans
- 1. If you could not be ready with the song
 - 2. If you were not ready with the song
 - 3. If you are not ready with the song
 - 4. If you would not be ready with the song

Question ID : 26433091871
Status : Not Answered
Chosen Option : --

Q.3 Select the most appropriate option that can substitute the underlined segment in the given sentence.

The reign of Akbar was the one glorious periods in Indian history.

- Ans
- 1. was one of the glorious period
 - 2. was one of the glorious periods
 - 3. were one of the glorious period
 - 4. was one glorious periods

Question ID : 26433092286
Status : Not Answered
Chosen Option : --

Q.4 Select the most appropriate ANTONYM of the underlying word in the given sentence and complete the sentence.

In the debate competition he scored less due to his banal arguments, while his opponent won because of his _____ arguments.

- Ans
- 1. timid
 - 2. pure
 - 3. weary
 - 4. novel

Question ID : 26433084710
Status : Not Answered
Chosen Option : --

Q.5 Select the INCORRECTLY spelt word.

- Ans
- 1. Interpretation
 - 2. Amplefication
 - 3. Theoretical
 - 4. Administration

Question ID : 26433073509
Status : Not Answered
Chosen Option : --

Q.6 Select the most appropriate synonym of the given word.

Counsel

- Ans
- 1. Minister
 - 2. Scintillate
 - 3. Advice
 - 4. Slim

Question ID : 26433088129
Status : Not Answered
Chosen Option : --

Q.7 Select the most appropriate option that can substitute the underlined segment in the given sentence.

He's in and out in town making plans.

- Ans
- 1. out and about
 - 2. with and out
 - 3. out and beside
 - 4. east and west

Question ID : 26433088508
Status : Not Answered
Chosen Option : --

Q.8 Select the INCORRECTLY spelt word.

- Ans
- 1. Reluctent
 - 2. Ordinary
 - 3. Cautious
 - 4. Slippery

Question ID : 26433073504
Status : Not Answered
Chosen Option : --

Q.9 Select the most appropriate ANTONYM of the given word.

Protest

- Ans
- 1. Notice
 - 2. Assert
 - 3. Provide
 - 4. Support

Question ID : 26433090787
Status : Not Answered
Chosen Option : --

Q.10 Select the most appropriate meaning of the given idiom.

Back to square one

- Ans 1. Having to start all over again
 2. To escape
 3. To hope something happens the way you want it to
 4. To be treated badly

Question ID : 26433072671
Status : Not Answered
Chosen Option : --

Q.11 Select the most appropriate synonym of the given word.

Plead

- Ans 1. Welcome
 2. Reject
 3. Mourn
 4. Beseech

Question ID : 26433072190
Status : Not Answered
Chosen Option : --

Q.12 Select the most appropriate meaning of the given idiom.

Spill the beans

- Ans 1. To hide important information
 2. Tell something that should be kept secret
 3. To swallow beans curry
 4. To spit the bitter fruits

Question ID : 26433072577
Status : Not Answered
Chosen Option : --

Q.13 Select the most appropriate option to fill in the blank.

Mike talks in an American _____.

- Ans 1. accent
 2. ascend
 3. ascent
 4. assent

Question ID : 26433084618
Status : Not Answered
Chosen Option : --

Q.14 Select the most appropriate synonym of the given word to fill in the blank in the sentence.

Daunt

My coach said, "Failures didn't _____ the hero."

- Ans
- 1. brave
 - 2. moralize
 - 3. hopeless
 - 4. discourage

Question ID : 26433060556

Status : Not Answered

Chosen Option : --

Q.15 The following sentence has been divided into parts. One of them may contain an error. Select the part that contains the error from the given options. If you don't find any error, mark 'No error' as your answer.
He will give you / good advice if / you will ask him.

- Ans
- 1. No error
 - 2. He will give you
 - 3. good advice if
 - 4. you will ask him

Question ID : 26433086359

Status : Not Answered

Chosen Option : --

Comprehension:

In the following passage, some words have been deleted. Read the passage carefully and select the most appropriate option to fill in each blank.

Isolation and loneliness (1) _____ by the Covid-19 pandemic and lockdown policies negatively (2) _____ the mental health of the public throughout the entire globe. These result in an increase in emotional (3) _____, (4) _____ of hopelessness and extreme anxiety, which are (5) _____ by variations in emotional responses and style of living.

SubQuestion No : 16

Q.16 Select the most appropriate option to fill in blank number 1.

- Ans
- 1. built
 - 2. constructed
 - 3. caused
 - 4. prepared

Question ID : 26433091733

Status : Not Answered

Chosen Option : --

Comprehension:

In the following passage, some words have been deleted. Read the passage carefully and select the most appropriate option to fill in each blank.

Isolation and loneliness (1) _____ by the Covid-19 pandemic and lockdown policies negatively (2) _____ the mental health of the public throughout the entire globe. These result in an increase in emotional (3) _____, (4) _____ of hopelessness and extreme anxiety, which are (5) _____ by variations in emotional responses and style of living.

SubQuestion No : 17

Q.17 Select the most appropriate option to fill in blank number 2.

- Ans
- 1. shown
 - 2. formed
 - 3. impacted
 - 4. did

Question ID : 26433091734

Status : Not Answered

Chosen Option : --

Comprehension:

In the following passage, some words have been deleted. Read the passage carefully and select the most appropriate option to fill in each blank.

Isolation and loneliness (1) _____ by the Covid-19 pandemic and lockdown policies negatively (2) _____ the mental health of the public throughout the entire globe. These result in an increase in emotional (3) _____, (4) _____ of hopelessness and extreme anxiety, which are (5) _____ by variations in emotional responses and style of living.

SubQuestion No : 18

Q.18 Select the most appropriate option to fill in blank number 3.

- Ans
- 1. anxiety
 - 2. stress
 - 3. state
 - 4. death

Question ID : 26433091735

Status : Not Answered

Chosen Option : --

Comprehension:

In the following passage, some words have been deleted. Read the passage carefully and select the most appropriate option to fill in each blank.

Isolation and loneliness (1) _____ by the Covid-19 pandemic and lockdown policies negatively (2) _____ the mental health of the public throughout the entire globe. These result in an increase in emotional (3) _____, (4) _____ of hopelessness and extreme anxiety, which are (5) _____ by variations in emotional responses and style of living.

SubQuestion No : 19

Q.19 Select the most appropriate option to fill in blank number 4.

Ans ✓ 1. feelings

✗ 2. idea

✗ 3. notion

✗ 4. concept

Question ID : 26433091736

Status : Not Answered

Chosen Option : --

Comprehension:

In the following passage, some words have been deleted. Read the passage carefully and select the most appropriate option to fill in each blank.

Isolation and loneliness (1) _____ by the Covid-19 pandemic and lockdown policies negatively (2) _____ the mental health of the public throughout the entire globe. These result in an increase in emotional (3) _____, (4) _____ of hopelessness and extreme anxiety, which are (5) _____ by variations in emotional responses and style of living.

SubQuestion No : 20

Q.20 Select the most appropriate option to fill in blank number 5.

Ans ✗ 1. surrounded

✗ 2. preserved

✗ 3. guarded

✓ 4. accompanied

Question ID : 26433091737

Status : Not Answered

Chosen Option : --

Section : Part-D-Hindi

Q.1 'मक्खी मारना' मुहावरे का क्या अर्थ है?

Ans ✓ 1. बेकार बैठे रहना

✗ 2. मक्खियों को उड़ाना

✗ 3. इधर-उधर करना

✗ 4. परेशान करना

Question ID : 26433066807

Status : Answered

Chosen Option : 1

Q.2 "तुम उसे गालियाँ क्यों निकाल रहे हो?"
उपरोक्त वाक्य में क्रिया सम्बन्धी त्रुटि पहचानकर निम्नलिखित में से शुद्ध वाक्य का चयन कीजिए।

- Ans
- 1. तुम उसे गालियाँ क्यों बता रहे हो?
 - 2. तुम उसे गालियाँ क्यों दे रहे हो?
 - 3. तुम उसे गालियाँ क्यों कह रहे हो?
 - 4. तुम उसे गालियाँ क्यों बोल रहे हो?

Question ID : 26433066974
Status : Answered
Chosen Option : 2

Q.3 निम्नलिखित में से अशुद्ध वाक्य कौन-सा है?

- Ans
- 1. निशांत होनहार लड़का है।
 - 2. वह नित्य गाने की कसरत करता है।
 - 3. हमें प्रतिदिन व्यायाम करना चाहिए।
 - 4. पल्लवी कल मुंबई जाएगी।

Question ID : 26433066986
Status : Answered
Chosen Option : 2

Q.4 'जो सिद्ध या पूरा किया जा सके' इस वाक्यांश के लिए सार्थक शब्द है -

- Ans
- 1. इच्छा
 - 2. अभिलाषा
 - 3. साध्य
 - 4. गंतव्य

Question ID : 26433062333
Status : Answered
Chosen Option : 1

Q.5 निम्नलिखित वाक्यांश के लिए उपयुक्त सार्थक शब्द क्या होगा?
जिसे पढ़ना-लिखना आता हो

- Ans
- 1. प्रधान
 - 2. साक्षर
 - 3. विद्वान
 - 4. पढ़ाकू

Question ID : 26433065752
Status : Answered
Chosen Option : 2

Q.6 निम्नलिखित में से कौन-सा वाक्य संज्ञा के प्रयोग की दृष्टि से शुद्ध है?

- Ans
- 1. राहुल बचपने में बहुत शरारती था।
 - 2. राहुल बचपने में बड़ा शरारती था।
 - 3. राहुल बचपन में बहुत शरारती था।
 - 4. राहुल का बचपनत्व बहुत शरारती था।

Question ID : 26433066961

Status : Answered

Chosen Option : 3

Q.7 'स्वजाति' के विपरीतार्थक शब्द का चयन कर निम्न वाक्य पूर्ण कीजिए।
_____ व्यक्ति से नफरत न करें।

- Ans
- 1. सुमति
 - 2. प्रजाति
 - 3. विजाति
 - 4. संपत्ति

Question ID : 26433063090

Status : Answered

Chosen Option : 1

Q.8 मेरी शिमला जाने की बड़ी इच्छा है।
उपरोक्त वाक्य में रेखांकित शब्द के उचित पर्यायवाची शब्द का चयन विकल्पों में से कीजिए।

- Ans
- 1. स्मृति
 - 2. प्रेम
 - 3. अभिलाषा
 - 4. अतुल

Question ID : 26433079721

Status : Answered

Chosen Option : 3

Q.9 'प्रकृति कुपित होकर अपना _____ रूप दिखाती है।' रिक्त स्थान की पूर्ति उचित शब्द द्वारा कीजिए।

- Ans
- 1. कल्याणकारी
 - 2. अहितकारी
 - 3. निर्माणकारी
 - 4. विनाशकारी

Question ID : 26433069682

Status : Answered

Chosen Option : 4

Q.10 निम्नलिखित मुहावरे में कौन सा शब्द अशुद्ध है?
सौ लकड़हारे की एक लोहार की

- Ans
- 1. लोहार
 - 2. सौ
 - 3. एक
 - 4. लकड़हारे

Question ID : 26433062814
Status : Answered
Chosen Option : 4

Q.11 रेखांकित शब्द के विलोम से दिए गए वाक्य के रिक्त स्थान की पूर्ति कीजिए।
उत्तम प्रकृति के लोग सम्मानित होते हैं किंतु दुष्ट _____।

- Ans
- 1. निर्लज्ज
 - 2. असहनीय
 - 3. अपमानित
 - 4. लांछित

Question ID : 26433085004
Status : Answered
Chosen Option : 3

Q.12 निम्नलिखित वाक्य के किस पद में त्रुटि है?
मैंने सुइ, कंधि, दर्पण और पुस्तकें मोल लीं।

- Ans
- 1. सुइ, कंधि
 - 2. और, मोल
 - 3. मैंने, लीं
 - 4. दर्पण, पुस्तकें

Question ID : 26433063067
Status : Answered
Chosen Option : 1

Q.13 विकल्पों में से कौन सा शब्द निम्न वाक्य के रेखांकित शब्द के लिए सर्वाधिक उपयुक्त होगा?
'सीता राम की स्त्री थी'

- Ans
- 1. नायिका
 - 2. औरत
 - 3. पत्नी
 - 4. महिला

Question ID : 26433066712
Status : Answered
Chosen Option : 3

Q.14 'विश्वस्त' शब्द के लिए उचित वाक्यांश है-

- Ans
- 1. जिसे बहुत याद किया गया हो
 - 2. जिस पर विश्वास किया गया हो
 - 3. जिस पर शक किया गया हो
 - 4. जिस पर विश्वास न किया गया हो

Question ID : 26433065872

Status : Answered

Chosen Option : 2

Q.15 विकल्पों में दिए गए किस वाक्य में निम्न शब्द के पर्यायवाची शब्द का प्रयोग हुआ है?
तालाब

- Ans
- 1. सरिता सूखी है।
 - 2. जलाशय में कमल खिला है।
 - 3. पंक में कमल खिला है।
 - 4. मेघ फट पड़े।

Question ID : 26433066934

Status : Answered

Chosen Option : 1

Comprehension:

निम्नलिखित गद्यांश में से कुछ शब्द हटा दिए गए हैं। दिए गए विकल्पों की सहायता से रिक्त स्थानों की पूर्ति कीजिए। प्रत्येक संख्या के लिए उपयुक्त विकल्प का चयन कीजिए।
एक बार मैं बस में 1. _____ कर रहा था। मेरे साथ मेरी पत्नी और तीन बच्चे 2. _____ थे। बस में कुछ खराबी थी, रुक-रुक कर चलती थी। गंतव्य से कोई आठ 3. _____ पहले ही एक निर्जन सुनसान स्थान में बस ने जवाब दे दिया। रात के कोई दस 4. _____ होंगे। बस में यात्री घबरा गए। कंडक्टर उतर गया 5. _____ एक साइकिल लेकर चलता बना।

SubQuestion No : 16

Q.16 रिक्त स्थान 1 की पूर्ति के लिए सर्वाधिक उपयुक्त विकल्प का चयन कीजिए।

- Ans
- 1. खेल
 - 2. यात्रा
 - 3. आराम
 - 4. भजन

Question ID : 26433079698

Status : Answered

Chosen Option : 2

Comprehension:

निम्नलिखित गद्यांश में से कुछ शब्द हटा दिए गए हैं। दिए गए विकल्पों की सहायता से रिक्त स्थानों की पूर्ति कीजिए। प्रत्येक संख्या के लिए उपयुक्त विकल्प का चयन कीजिए।
एक बार मैं बस में 1. _____ कर रहा था। मेरे साथ मेरी पत्नी और तीन बच्चे 2. _____ थे। बस में कुछ खराबी थी, रुक-रुक कर चलती थी। गंतव्य से कोई आठ 3. _____ पहले ही एक निर्जन सुनसान स्थान में बस ने जवाब दे दिया। रात के कोई दस 4. _____ होंगे। बस में यात्री घबरा गए। कंडक्टर उतर गया 5. _____ एक साइकिल लेकर चलता बना।

SubQuestion No : 17

Q.17 रिक्त स्थान 2 की पूर्ति के लिए सर्वाधिक उपयुक्त विकल्प का चयन कीजिए।

- Ans
- 1. सामने
 - 2. भर
 - 3. तक
 - 4. भी

Question ID : 26433079699

Status : Answered

Chosen Option : 4

Comprehension:

निम्नलिखित गद्यांश में से कुछ शब्द हटा दिए गए हैं। दिए गए विकल्पों की सहायता से रिक्त स्थानों की पूर्ति कीजिए। प्रत्येक संख्या के लिए उपयुक्त विकल्प का चयन कीजिए।
एक बार मैं बस में 1. _____ कर रहा था। मेरे साथ मेरी पत्नी और तीन बच्चे 2. _____ थे। बस में कुछ खराबी थी, रुक-रुक कर चलती थी। गंतव्य से कोई आठ 3. _____ पहले ही एक निर्जन सुनसान स्थान में बस ने जवाब दे दिया। रात के कोई दस 4. _____ होंगे। बस में यात्री घबरा गए। कंडक्टर उतर गया 5. _____ एक साइकिल लेकर चलता बना।

SubQuestion No : 18

Q.18 रिक्त स्थान 3 की पूर्ति के लिए सर्वाधिक उपयुक्त विकल्प का चयन कीजिए।

- Ans
- 1. किलोमीटर
 - 2. मिलीमीटर
 - 3. किलो
 - 4. सेंटीमीटर

Question ID : 26433079700

Status : Answered

Chosen Option : 1

Comprehension:

निम्नलिखित गद्यांश में से कुछ शब्द हटा दिए गए हैं। दिए गए विकल्पों की सहायता से रिक्त स्थानों की पूर्ति कीजिए। प्रत्येक संख्या के लिए उपयुक्त विकल्प का चयन कीजिए।
एक बार मैं बस में 1. _____ कर रहा था। मेरे साथ मेरी पत्नी और तीन बच्चे 2. _____ थे। बस में कुछ खराबी थी, रुक-रुक कर चलती थी। गंतव्य से कोई आठ 3. _____ पहले ही एक निर्जन सुनसान स्थान में बस ने जवाब दे दिया। रात के कोई दस 4. _____ होंगे। बस में यात्री घबरा गए। कंडक्टर उतर गया 5. _____ एक साइकिल लेकर चलता बना।

SubQuestion No : 19

Q.19 रिक्त स्थान 4 की पूर्ति के लिए सर्वाधिक उपयुक्त विकल्प का चयन कीजिए।

- Ans 1. बजे
 2. समय
 3. गज
 4. पद

Question ID : 26433079701

Status : Answered

Chosen Option : 1

Comprehension:

निम्नलिखित गद्यांश में से कुछ शब्द हटा दिए गए हैं। दिए गए विकल्पों की सहायता से रिक्त स्थानों की पूर्ति कीजिए। प्रत्येक संख्या के लिए उपयुक्त विकल्प का चयन कीजिए।
एक बार मैं बस में 1. _____ कर रहा था। मेरे साथ मेरी पत्नी और तीन बच्चे 2. _____ थे। बस में कुछ खराबी थी, रुक-रुक कर चलती थी। गंतव्य से कोई आठ 3. _____ पहले ही एक निर्जन सुनसान स्थान में बस ने जवाब दे दिया। रात के कोई दस 4. _____ होंगे। बस में यात्री घबरा गए। कंडक्टर उतर गया 5. _____ एक साइकिल लेकर चलता बना।

SubQuestion No : 20

Q.20 रिक्त स्थान 5 की पूर्ति के लिए सर्वाधिक उपयुक्त विकल्प का चयन कीजिए।

- Ans 1. और
 2. परंतु
 3. किंतु
 4. क्योंकि

Question ID : 26433079702

Status : Answered

Chosen Option : 2

Constable GD in CAPFs SSF Rifleman GD in Assam Rifles and Sepoy in NCB Examination 2022

Roll Number	KD Job Updates
Candidate Name	KD Job Updates
Venue Name	Eduhive Palestra
Exam Date	31/01/2023
Exam Time	9:00 AM - 10:00 AM
Subject	Constable GD Examination 2022

Section : Part-A-General Intelligence and Reasoning

Q.1 दिए गए विकल्पों में से उस अक्षर-समूह का चयन कीजिए जो निम्न श्रृंखला में प्रश्न-चिह्न (?) के स्थान पर आ सकता है।
KRBP, IPHV, GNNB, ? , CJZN

- Ans
- 1. PRSB
 - 2. ELTH
 - 3. ETLH
 - 4. PDLR

Question ID : 26433074753
Status : Answered
Chosen Option : 2

Q.2 दिए गए समीकरण को संतुलित करने के लिए विकल्पों में दिए गए किन दो गणितीय चिह्नों को परस्पर बदलना होगा?
 $87 \times 24 \div 12 - 16 + 14 = 176$

- Ans
- 1. + और +
 - 2. - और +
 - 3. \times और +
 - 4. \times और +

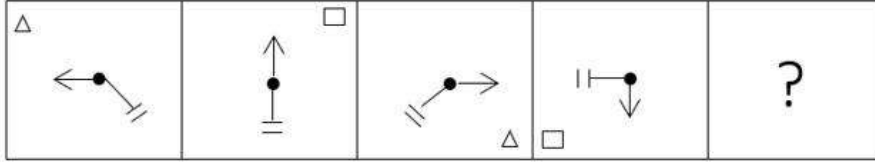
Question ID : 26433090137
Status : Answered
Chosen Option : 2

Q.3 उस विकल्प का चयन करें, जो पाँचवीं संख्या से उसी प्रकार संबंधित है, जिस प्रकार दूसरी संख्या, पहली संख्या से संबंधित है और चौथी संख्या, तीसरी संख्या से संबंधित है।
18 : 3 :: 55 : 4 :: 334 : ?

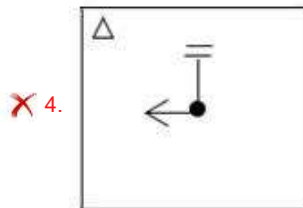
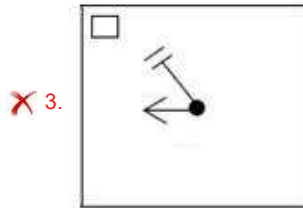
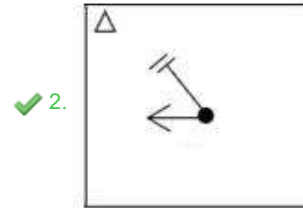
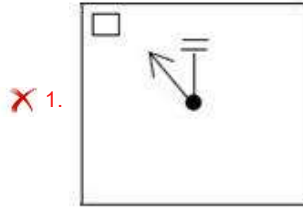
- Ans
- 1. 6
 - 2. 7
 - 3. 8
 - 4. 5

Question ID : 26433069423
Status : Not Answered
Chosen Option : --

Q.4 दिए गए विकल्पों में से उस आकृति का चयन करें जो निम्न श्रृंखला में प्रश्नवाचक चिन्ह (?) के स्थान पर आ सकती है।



Ans

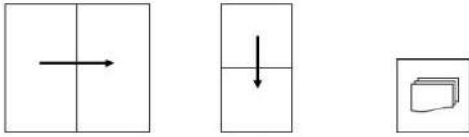


KD Job Updates

Question ID : 26433080751
 Status : Answered
 Chosen Option : 3

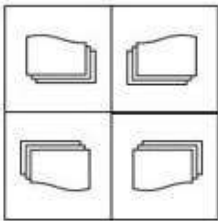
Q.5 एक कागज को नीचे दिखाये गए रूप में मोड़ा और काटा जाता है। खोलने पर यह कैसे

दिखाई देगा?

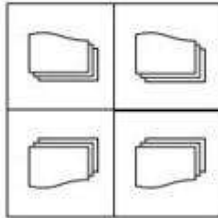


Ans

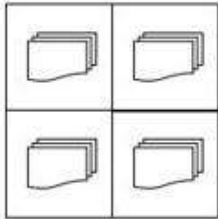
✗ 1.



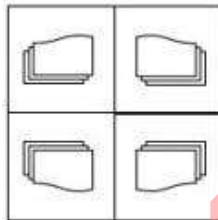
✗ 2.



✗ 3.



✓ 4.



Question ID : 26433089788

Status : Answered

Chosen Option : 2

Q.6 नीचे दिए गए समीकरण को गणितीय रूप से सही बनाने के लिए किन दो चिन्हों को परस्पर बदलना चाहिए?

$$320 \times 8 - 216 + 72 \div 5 = 184$$

Ans ✗ 1. - और +

✓ 2. × और ÷

✗ 3. + और ×

✗ 4. + और ×

Question ID : 264330117525

Status : Answered

Chosen Option : 2

Q.7 एक निश्चित कूट भाषा में,
'A + B' का अर्थ है कि 'A, B की माता है',
'A - B' का अर्थ है कि 'A, B का पिता है',
'A x B' का अर्थ है कि 'A, B का भाई है' और
'A & B' का अर्थ है कि 'A, B की पत्नी है'।
यदि N & P - Q + T x R है, तो N का R से क्या संबंध है?

- Ans 1. नानी
 2. माता
 3. दादी
 4. मौसी

Question ID : 26433070372
Status : Answered
Chosen Option : 1

Q.8 एक निश्चित कूट भाषा में, 'SHIP' को 'T17O' के रूप में लिखा जाता है और 'KITE' को 'L29D' के रूप में लिखा जाता है। उसी भाषा में 'HOPE' को कैसे लिखा जाएगा?

- Ans 1. I31D
 2. D31I
 3. I30D
 4. H31E

Question ID : 26433069644
Status : Answered
Chosen Option : 1

Q.9 एक निश्चित कूट भाषा में, 'AROUND' को 'PSBFPW' के रूप में लिखा जाता है और 'ARTIST' को 'USBVUK' के रूप में लिखा जाता है। उसी भाषा में 'AUTHOR' को किस प्रकार लिखा जाएगा?

- Ans 1. UVBTQJ
 2. ROHTUA
 3. TUAROH
 4. UVBROH

Question ID : 26433090037
Status : Answered
Chosen Option : 1

Q.10 निम्नलिखित में से कौन-सी संख्या दी गई श्रृंखला में प्रश्न-चिह्न (?) के स्थान पर आएगी?
1, 3, 4, 7, ?, ?, 29

- Ans 1. 12, 22
 2. 10, 20
 3. 14, 24
 4. 11, 18

Question ID : 26433070221
Status : Answered
Chosen Option : 4

Q.11 छः व्यक्ति P, Q, R, S, T, और U एक दीवार पर दक्षिण की ओर मुख करके बैठे हैं। P और S के बीच में केवल Q बैठा है। U, R के बाईं ओर ठीक बगल में बैठा है। T, S के दाईं ओर बैठा है। Q, P के दाईं ओर ठीक बगल में बैठा है। T और R के बीच में केवल U बैठा है। S के दाईं ओर ठीक बगल में कौन बैठा है?

Ans 1. R

2. T

3. U

4. P

Question ID : 26433074627

Status : Answered

Chosen Option : 2

Q.12 उस विकल्प का चयन कीजिए जो तीसरे शब्द से उसी प्रकार संबंधित है जिस प्रकार दूसरा शब्द पहले शब्द से संबंधित है। (शब्दों को अर्थपूर्ण शब्दों के रूप में मानना है और उन्हें शब्द में अक्षरों/व्यंजनों/स्वरों की संख्या के आधार पर एक-दूसरे से संबंधित नहीं करना है।)
सफलता : असफलता :: संभवतः : ?

Ans 1. तत्काल

2. निश्चित रूप से

3. शीघ्र

4. शायद

Question ID : 26433067376

Status : Answered

Chosen Option : 2

Q.13 छः विद्यार्थी - लूसी, लोरेन, सिमरन, डॉली, विकास और फ्रांसिस एक वृत्ताकार मेज के परितः मेज के केंद्र की ओर मुख करके बैठे हैं। लूसी, फ्रांसिस के बाईं ओर दूसरे स्थान पर बैठी है। लोरेन, लूसी के बाईं ओर दूसरे स्थान पर बैठा है। विकास, लोरेन के दाईं ओर ठीक बगल में बैठा है। सिमरन, विकास के बाईं ओर दूसरे स्थान पर बैठी है। डॉली, लूसी के ठीक बगल में है। फ्रांसिस और लोरेन के बीच में कौन बैठा/बैठी है?

Ans 1. डॉली

2. सिमरन

3. विकास

4. लूसी

Question ID : 26433081784

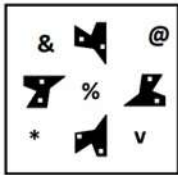
Status : Answered

Chosen Option : 1

Q.14 दर्पण को दाईं ओर रखे जाने पर, निम्नलिखित में से कौन-सी आकृति दी गई प्रश्न आकृति


का सटीक दर्पण प्रतिबिम्ब होगी?

प्रश्न आकृति:

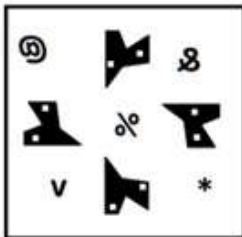


Ans


✗ 1.




✓ 2.



✗ 3.



✗ 4.



Question ID : 26433087087

Status : Answered

Chosen Option : 2


Q.15 निम्नलिखित विकल्पों में से उस आकृति का चयन करें जिसमें नीचे दी गई

आकृति सन्निहित है (आकृति को घुमाने की अनुमति नहीं है)।

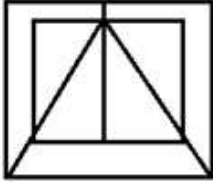


Ans

✗ 1.



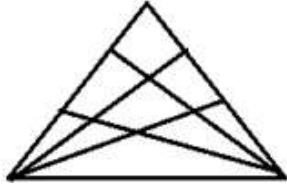
✓ 2.



✗ 3.



✗ 4.



Question ID : 26433069537

Status : Answered

Chosen Option : 2

Q.16 किस विकल्प में निम्नलिखित शब्दों का वह क्रम दिया गया है, जिस क्रम में वे अंग्रेजी शब्दकोश में आते हैं?

- 1 gather
- 2 garbage
- 3 gamble
- 4 garnish
- 5 gastronomy

Ans ✓ 1. 3,2,4,5,1

✗ 2. 3,4,1,2,5

✗ 3. 3,5,2,1,3

✗ 4. 3,4,2,5,1

Question ID : 26433069326

Status : Answered

Chosen Option : 1

Q.17 निम्नलिखित में से कौन-सी संख्या दी गई श्रृंखला में प्रश्न-चिह्न (?) के स्थान पर आएगी?
1, 9, 65, 457, ?

- Ans 1. 5289
 2. 3201
 3. 3125
 4. 4258

Question ID : 26433082011
Status : Not Answered
Chosen Option : --

Q.18 तीन कथन दिए गए हैं, जिनके बाद तीन निष्कर्ष I, II और III दिए गए हैं। कथनों को सत्य मानते हुए, भले ही वे सामान्य रूप से ज्ञात तथ्यों से भिन्न प्रतीत होते हों, निर्धारित करें कि कौन-सा/से निष्कर्ष कथनों का तार्किक रूप से अनुसरण करता है/करते हैं।

कथन:
सभी पेंसिल इरेज़र हैं।
सभी पेन इरेज़र हैं।
सभी इरेज़र स्केल हैं।
निष्कर्ष:
I. सभी पेन स्केल हैं।
II. सभी इरेज़र पेंसिल हैं।
III. कुछ इरेज़र पेन हैं।

- Ans 1. केवल निष्कर्ष II और III अनुसरण करते हैं
 2. केवल निष्कर्ष I और II अनुसरण करते हैं
 3. केवल निष्कर्ष I और III अनुसरण करते हैं
 4. सभी निष्कर्ष अनुसरण करते हैं

Question ID : 26433090986
Status : Answered
Chosen Option : 3

Q.19 निम्नलिखित में से कौन-सा पद दी गई श्रृंखला में प्रश्न-चिह्न (?) के स्थान पर आएगा?
UNEO, TLBK, SJYG, ?, QFSY

- Ans 1. VRCH
 2. CVHR
 3. RHVC
 4. HCVR

Question ID : 26433068984
Status : Answered
Chosen Option : 3

Q.20 उस विकल्प का चयन कीजिए, जो तीसरे शब्द से उसी प्रकार संबंधित है, जिस प्रकार दूसरा शब्द पहले शब्द से संबंधित है। (शब्दों को अर्थपूर्ण शब्दों के रूप में मानना है और उन्हें शब्द में अक्षरों/व्यंजनों/स्वरों की संख्या के आधार पर एक-दूसरे से संबंधित नहीं करना है।)
रंग : हरा :: आकृति : ?

- Ans
- 1. विकर्ण
 - 2. कोण
 - 3. त्रिभुज
 - 4. बिन्दु

Question ID : 26433079475
Status : Not Answered
Chosen Option : --

Section : Part-B-General Knowledge and General awareness

Q.1 दूध और फेस क्रीम _____ के उदाहरण हैं।

- Ans
- 1. ऐरोसोल
 - 2. इमल्शन
 - 3. सोल
 - 4. फ़ोम

Question ID : 264330115176
Status : Not Answered
Chosen Option : --

Q.2 निम्नलिखित में से किसे स्वास्थ्य अवसंरचना संकेतक (health infrastructure indicator) के रूप में नहीं माना जा सकता है?

- Ans
- 1. जीवन यापन लागत
 - 2. शिशु मृत्युदर
 - 3. मातृ मृत्युदर
 - 4. जीवन प्रत्याशा

Question ID : 264330115559
Status : Answered
Chosen Option : 1

Q.3 हम जो कचरा उत्पन्न करते हैं वह _____ होता है।
I. जैव निम्नीकरणीय
II. अजैव निम्नीकरणीय

- Ans
- 1. केवल II
 - 2. केवल I
 - 3. न तो I और न ही II
 - 4. I और II दोनों

Question ID : 264330115259
Status : Answered
Chosen Option : 1

Q.4 माइक्रोफाइनेंस संस्था _____ को वित्तीय सेवाएं प्रदान करती है।

- Ans
- 1. उच्च आय वाले व्यक्तियों
 - 2. पूर्व सैनिकों
 - 3. कम आय वाले व्यक्तियों
 - 4. अवैध-आय वाले व्यक्तियों

Question ID : 264330115312
Status : Answered
Chosen Option : 3

Q.5 भारतीय खेल प्राधिकरण का गठन किस वर्ष हुआ था?

- Ans
- 1. 1984
 - 2. 1987
 - 3. 1982
 - 4. 1983

Question ID : 264330116300
Status : Not Answered
Chosen Option : --

Q.6 छठ पूजा निम्नलिखित में से किस देवता को समर्पित है?

- Ans
- 1. सूर्य देव
 - 2. राम
 - 3. कृष्ण
 - 4. शिव

Question ID : 264330105969
Status : Answered
Chosen Option : 1

Q.7 भारतीय संविधान में मूल कर्तव्यों को _____ की सिफारिश पर शामिल किया गया था।

- Ans
- 1. शाह आयोग
 - 2. मंडल आयोग
 - 3. प्रशासनिक सुधार आयोग
 - 4. स्वर्ण सिंह समिति

Question ID : 264330115630
Status : Answered
Chosen Option : 4

Q.8 हरित क्रांति का मुख्य उद्देश्य _____ था।

- Ans
- 1. अधिक उपज देने वाली खाद्य फसलों के उत्पादन में वृद्धि करना
 - 2. दूध का उत्पादन कम करना
 - 3. भूमि के कुल क्षेत्रफल में वृद्धि करना
 - 4. क्लोरो फ्लोरो रसायन की खपत को कम करना

Question ID : 264330115419
Status : Answered
Chosen Option : 1

Q.9 भारतीय संविधान के अनुच्छेद 157 में कहा गया है कि किसी राज्य के राज्यपाल नियुक्त होने के लिए किसी व्यक्ति द्वारा निम्नलिखित में से कौन सी योग्यताएं पूरी की जानी चाहिए?
(i) उसे एक भारतीय नागरिक होना चाहिए।
(ii) उसने 35 वर्ष की आयु पूरी कर ली हो।

- Ans
- 1. केवल (i)
 - 2. केवल (ii)
 - 3. दोनों (i) और (ii)
 - 4. न तो (i) और न ही (ii)

Question ID : 26433089916
Status : Answered
Chosen Option : 3

Q.10 निजी क्षेत्र संस्था का प्राथमिक उद्देश्य क्या होता है?

- Ans
- 1. सार्वजनिक कल्याण (Public welfare)
 - 2. धर्मदान (Charity)
 - 3. सरकारी नीतियों का प्रचार करना
 - 4. लाभ

Question ID : 264330116081
Status : Answered
Chosen Option : 1

Q.11 जम्मू और कश्मीर के दूसरे लेफ्टिनेंट गवर्नर कौन बने?

- Ans
- 1. श्री राधा कृष्ण माथुर
 - 2. श्री प्रफुल पटेल
 - 3. श्री मनोज सिन्हा
 - 4. श्री गिरीश चंद्र मुर्मू

Question ID : 264330115015
Status : Answered
Chosen Option : 3

Q.12 भारतीय संविधान के _____ वें संशोधन (वर्ष 2020 में) ने अनुसूचित जाति और अनुसूचित जनजाति के आरक्षण को बढ़ा दिया।

- Ans
- 1. 107
 - 2. 106
 - 3. 104
 - 4. 105

Question ID : 264330116229
Status : Answered
Chosen Option : 3

Q.13 पृथ्वी की सबसे बाहरी परत कौन-सी है जो भूपर्पटी तथा ऊपरी मेंटल से बनी है?

- Ans
- 1. बाह्य कोर
 - 2. स्थलमंडल
 - 3. मध्यमंडल
 - 4. दुर्बलतामंडल

Question ID : 264330115995
Status : Answered
Chosen Option : 2

Q.14 दूसरा गोलमेज सम्मेलन _____ में आयोजित किया गया था।

- Ans
- 1. दिसंबर 1931
 - 2. दिसंबर 1929
 - 3. मार्च 1931
 - 4. अक्टूबर 1930

Question ID : 26433089891
Status : Answered
Chosen Option : 3

Q.15 1981 में, निम्नलिखित में से किसे अखिल भारतीय गंधर्व महाविद्यालय द्वारा डॉक्टरेट की उपाधि से सम्मानित किया गया था?

- Ans
- 1. अमाला अक्किनेनी
 - 2. एम आर कृष्णमूर्ति
 - 3. केलूचरण महापात्रा
 - 4. पंडित बिरजू महाराज

Question ID : 264330115883
Status : Not Answered
Chosen Option : --

Q.16 अप्रैल 2022 में नागालैंड से भारत में राज्यसभा की पहली महिला सदस्य के रूप में किसे चुना गया है?

- Ans
- 1. प्रियंका गांधी
 - 2. फांगनोन कोन्याक
 - 3. मरियम रेंग्मा
 - 4. जेस्मिना ज़ेलियांग

Question ID : 264330114957
Status : Answered
Chosen Option : 3

Q.17 निम्नलिखित में से किस लोक-नृत्य शैली का संबंध मुख्यतः पंजाब से नहीं है?

- Ans
- 1. लुड़ी
 - 2. भांगड़ा
 - 3. लावणी
 - 4. गिद्धा

Question ID : 26433071450
Status : Answered
Chosen Option : 3

Q.18 हरित क्रांति का प्रथम चरण कब प्रारंभ हुआ था?

- Ans
- 1. 1950 के दशक के मध्य में
 - 2. 1960 के दशक के मध्य में
 - 3. 1970 के दशक के मध्य में
 - 4. 1980 के दशक के मध्य में

Question ID : 26433054626
Status : Answered
Chosen Option : 3

Q.19 इलाहाबाद में अशोक-स्तम्भ पर किसकी प्रशस्ति की खुदाई की गयी है?

- Ans
- 1. चंद्रगुप्त II
 - 2. समुद्रगुप्त II
 - 3. चंद्रगुप्त
 - 4. समुद्रगुप्त

Question ID : 26433089191
Status : Answered
Chosen Option : 4

Q.20 FIFA के नियमों के अनुसार, आधिकारिक स्वीकृत मैचों में उपयोग की जाने वाली फुटबॉल गेंद की परिधि का माप निम्न के बीच होना चाहिए:

- Ans
- 1. 24 और 25 इंच
 - 2. 29 और 30 इंच
 - 3. 25 और 26 इंच
 - 4. 27 और 28 इंच

Question ID : 264330115943
Status : Not Answered
Chosen Option : --

Q.1 एक बर्तन में 36 लीटर पानी है। इस बर्तन से 6 लीटर सामग्री निकाल ली गई और उसे तेल से प्रतिस्थापित कर दिया गया। यह प्रक्रिया दो बार दोहराई गई। बर्तन के अंदर कितना पानी है?

- Ans
- 1. 30 लीटर
 - 2. 20 लीटर
 - 3. 28 लीटर
 - 4. 25 लीटर

Question ID : 26433076068

Status : Answered

Chosen Option : 1

Q.2 यदि दो संख्याओं का योग 15 है और उनका महत्तम समापवर्तक और लघुत्तम समापवर्त्य क्रमशः 3 और 18 है, तो दोनों संख्याओं के व्युत्क्रमों का योग ज्ञात कीजिए।

- Ans
- 1. $\frac{1}{6}$
 - 2. $\frac{2}{9}$
 - 3. $\frac{1}{9}$
 - 4. $\frac{5}{18}$

Question ID : 26433091982

Status : Answered

Chosen Option : 4

Q.3 2 वर्ष पहले मेरी कार का मूल्य ₹3,62,500 था। यदि मूल्य में प्रति वर्ष 2% का हास होता है, तो अब इसका मूल्य (₹ में) कितना है?

- Ans
- 1. 342254
 - 2. 354425
 - 3. 338455
 - 4. 348145

Question ID : 26433076276

Status : Not Answered

Chosen Option : --

Q.4 अंकित मूल्य पर 12% की छूट देने के बाद, एक मोबाइल फोन का विक्रय मूल्य Rs.22,352 है। यदि कोई छूट नहीं दी जाती, तो दुकानदार को 25% का लाभ हुआ होता। मोबाइल फोन का क्रय मूल्य क्या है?

- Ans
- 1. Rs.20,320
 - 2. Rs.22,560
 - 3. Rs.22,320
 - 4. Rs.20,230

Question ID : 26433075188

Status : Not Answered

Chosen Option : --

Q.5 एक दुकानदार अपने माल का एक चौथाई 20% के लाभ पर, अन्य एक चौथाई 25% के लाभ पर, और अन्य एक चौथाई को 10% के लाभ पर और शेष 5% की हानि पर बेचता है। उसका कुल लाभ प्रतिशत _____ है।

- Ans
- 1. 10 प्रतिशत
 - 2. 20 प्रतिशत
 - 3. 25 प्रतिशत
 - 4. 12.5 प्रतिशत

Question ID : 26433081563
Status : Not Answered
Chosen Option : --

Q.6 दो संख्याओं में से, पहली का 28% दूसरी के 64% के बराबर है। पहली और दूसरी संख्या का अनुपात क्या है?

- Ans
- 1. 16 : 7
 - 2. 7 : 16
 - 3. 8 : 5
 - 4. 5 : 8

Question ID : 26433082386
Status : Answered
Chosen Option : 1

Q.7 Rs.4,500 के अंकित मूल्य वाला एक कॉफी मेकर 20%, 10% और 5% की क्रमिक छूट पर उपलब्ध है। कॉफी मेकर का विक्रय मूल्य ज्ञात कीजिए।

- Ans
- 1. Rs.3,078
 - 2. Rs.3,072
 - 3. Rs.3,074
 - 4. Rs.3,076

Question ID : 26433082972
Status : Answered
Chosen Option : 1

Q.8 एक गाँव की जनसंख्या एक वर्ष में 12,500 से बढ़कर 15,000 हो गई। एक वर्ष में जनसंख्या में कितने प्रतिशत वृद्धि हुई है?

- Ans
- 1. 25%
 - 2. 20%
 - 3. 15%
 - 4. 10%

Question ID : 26433085432
Status : Answered
Chosen Option : 2

Q.9 एक नाव शांत जल में 15.5 km/h की चाल से यात्रा कर सकती है। यदि धारा की चाल 4.5 km/h है, तो धारा की दिशा में 76 km और धारा की विपरीत दिशा में 104.5 km जाने में कितना समय लगेगा?

- Ans
- 1. 18 घंटे 13 मिनट
 - 2. 12 घंटे 30 मिनट
 - 3. 15 घंटे 20 मिनट
 - 4. 13 घंटे 18 मिनट

Question ID : 26433063239
Status : Not Answered
Chosen Option : --

Q.10 ₹80000 के बिल पर लागू बिल पर दी गई 15% की छूट तथा 10% और 5% की दो क्रमिक छूटों के बीच का अंतर ज्ञात कीजिए।

- Ans
- 1. ₹200
 - 2. कोई अंतर नहीं
 - 3. ₹400
 - 4. ₹600

Question ID : 26433092160
Status : Answered
Chosen Option : 3

Q.11 तीन घंटियाँ एक साथ बजना शुरू होती हैं और क्रमशः 8 sec, 10 sec और 12 sec के अंतराल पर बजती हैं। 30 min में वे कितनी बार एक साथ बजती हैं?

- Ans
- 1. 18
 - 2. 17
 - 3. 16
 - 4. 14

Question ID : 26433082344
Status : Not Answered
Chosen Option : --

Q.12 0.09 और 0.64 के बीच का मध्यानुपाती क्या है?

- Ans
- 1. 0.24
 - 2. 0.72
 - 3. 5.76
 - 4. 2.4

Question ID : 26433087369
Status : Answered
Chosen Option : 4

Q.13 राकेश एक कार्य को 45 दिनों में कर सकता है और मनोज उसी कार्य को 90 दिनों में कर सकता है। समान कार्य को पूरा करने में लगने वाला समय ज्ञात करें यदि वे बारी-बारी से एक-एक दिन कार्य करते हैं तथा राकेश कार्य शुरू करता है।

- Ans
- 1. 50 दिन
 - 2. 40 दिन
 - 3. 66 दिन
 - 4. 60 दिन

Question ID : 264330116913
Status : Not Answered
Chosen Option : --

Q.14 एक अर्धगोले की त्रिज्या 14 cm है। इसका वक्र पृष्ठीय क्षेत्रफल (cm^2 में) _____ होगा। ($\pi = 22/7$ लें)

- Ans
- 1. 1232
 - 2. 1132
 - 3. 1098
 - 4. 1188

Question ID : 26433085770
Status : Answered
Chosen Option : 1

Q.15 सिद्धू एक कॉलेज में दाखिल होना चाहता है और कैम्पस प्लेसमेंट के लिए 10 में से 9 और शिक्षण के लिए 10 में से 8 की रेटिंग प्राप्त करता है। अपनी आवश्यकता के आधार पर सिद्धू कैम्पस प्लेसमेंट को 55% महत्त्व और शिक्षण को 45% महत्त्व देता है। कॉलेज की अंतिम रेटिंग 10 में से _____ है।

- Ans
- 1. 8.55
 - 2. 7.45
 - 3. 8.15
 - 4. 9.15

Question ID : 26433079910
Status : Not Answered
Chosen Option : --

Q.16 राजू एक काम को 10 घंटे में और राम उसी काम को 15 घंटे में पूरा कर सकता है। यदि वे एक साथ मिलकर काम करते हैं तो काम को पूरा होने में कितना समय लगेगा?

- Ans
- 1. 4 घंटे
 - 2. 5 घंटे
 - 3. 7 घंटे
 - 4. 6 घंटे

Question ID : 26433075795
Status : Answered
Chosen Option : 4

Q.17 प्रत्येक 4096 cm^3 आयतन वाले तीन घनों को एक सिरे से दूसरे सिरे तक जोड़कर एक नया ठोस बनाया जाता है। नए ठोस का पृष्ठीय क्षेत्रफल कितना है?

- Ans
- 1. 1536 cm^2
 - 2. 1792 cm^2
 - 3. 3584 cm^2
 - 4. 1280 cm^2

Question ID : 26433087418
Status : Not Answered
Chosen Option : --

Q.18 यदि एक गोले S_1 का पृष्ठीय क्षेत्रफल गोले S_2 से 800% अधिक है और गोले S_2 का आयतन गोले S_1 से $x\%$ कम है, तो प्रतिशत के संदर्भ में 'x' _____ है। (दशमलव के दो स्थान तक पूर्णांकित)

- Ans
- 1. 96.29%
 - 2. 2.68%
 - 3. 3.70%
 - 4. 80.30%

Question ID : 26433079918
Status : Not Answered
Chosen Option : --

Q.19 सोहन ने भविष्य के लिए Rs.6,250 का निवेश किया और उसे 5 वर्ष बाद Rs.15,552 प्राप्त हुए। यदि ब्याज वार्षिक रूप से चक्रवृद्धि है, तो ब्याज की दर क्या होगी?

- Ans
- 1. 15%
 - 2. 20%
 - 3. 10%
 - 4. 18%

Question ID : 26433075684
Status : Not Answered
Chosen Option : --

Q.20 65 km/h की चाल से चलने वाली एक ट्रेन 10:00 A.M. को बंबई से छूटती है और 76 km/h की चाल से चलने वाली एक अन्य ट्रेन 12:00 P.M. को उसी दिशा में चलना प्रारंभ करती है। बंबई से कितनी दूरी पर (km में) वे एक साथ होंगी?

- Ans
- 1. 925 km
 - 2. 988 km
 - 3. 1,000 km
 - 4. 898.18 km

Question ID : 26433075505
Status : Not Answered
Chosen Option : --

Q.1 Parts of the following sentence have been given as options. One of them may contain an error. Select the part that contains the error from the given options. If you don't find any error, mark 'No error' as your answer.

He goes to Shimla every year but this year he was going to Goa.

- Ans
- 1. He goes to Shimla every year
 - 2. No error
 - 3. he was going to Goa
 - 4. but this year

Question ID : 26433088856
Status : Not Answered
Chosen Option : --

Q.2 Select the most appropriate option that can substitute the underlined segment in the given sentence.

Between the 11 members of the team, there was great discord and this led to their dismal performance.

- Ans
- 1. Among the 11 members of the team
 - 2. Between the 11 members in the team
 - 3. Beside the 11 members of the team
 - 4. Between the 11 member off the team

Question ID : 26433091772
Status : Not Answered
Chosen Option : --

Q.3 The sentence given below has one misspelt word. Spot the INCORRECTLY spelt word and select its correct spelling.

She wraped the gift in a gift paper.

- Ans
- 1. Wrraped
 - 2. Vraped
 - 3. Vrapped
 - 4. Wrapped

Question ID : 26433073562
Status : Not Answered
Chosen Option : --

Q.4 Select the most appropriate option that can substitute the underlined segment in the given sentence.

When we went to the cinema, the film already started.

- Ans
- 1. was already start
 - 2. has started
 - 3. had already started
 - 4. would already start

Question ID : 26433088830
Status : Not Answered
Chosen Option : --

Q.5 Select the most appropriate synonym of the given word to fill in the blank in the sentence.

Compulsion

Some people have a disorder from which comes the _____ to check doors and ensure that they are properly locked.

- Ans
- 1. passion
 - 2. exertion
 - 3. obligation
 - 4. agreement

Question ID : 26433060552
Status : Not Answered
Chosen Option : --

Q.6 Select the most appropriate synonym of the given word.

Serpentine

- Ans
- 1. Prosthetic
 - 2. Fiery
 - 3. Nascent
 - 4. Zigzag

Question ID : 26433073984
Status : Not Answered
Chosen Option : --

Q.7 Select the most appropriate synonym of the underlined word in the given sentence.

Her progress is unparalleled with that of any other teacher.

- Ans
- 1. plight
 - 2. betterment
 - 3. dilemma
 - 4. scenario

Question ID : 26433092106
Status : Not Answered
Chosen Option : --

Q.8 Select the most appropriate meaning of the given idiom.
Fish out of water

- Ans
- 1. Be nostalgic about something
 - 2. Not feeling comfortable in a new environment
 - 3. Be a survivor
 - 4. Go fishing

Question ID : 26433070802
Status : Not Answered
Chosen Option : --

Q.9 Select the correctly spelt word.

- Ans
- 1. Messenjer
 - 2. Massanger
 - 3. Masenger
 - 4. Messenger

Question ID : 26433094749
Status : Not Answered
Chosen Option : --

Q.10 Select the most appropriate ANTONYM of the given word.

Misfortune

- Ans
- 1. Affliction
 - 2. Support
 - 3. Blessing
 - 4. Condemn

Question ID : 26433090793
Status : Not Answered
Chosen Option : --

Q.11 Select the appropriate idiom that can replace the underlined phrase in the following sentence.

He is experienced and full of wisdom as he is teaching chemistry at a university at a very young age of 25.

- Ans
- 1. an old head on young shoulders
 - 2. a silver fox
 - 3. an alpha mom
 - 4. a frog in a small pond

Question ID : 26433072282
Status : Not Answered
Chosen Option : --

Q.12 Select the most appropriate ANTONYM of the given word.

Compact

- Ans
- 1. Expand
 - 2. Multiple
 - 3. Compress
 - 4. Short

Question ID : 26433090782
Status : Not Answered
Chosen Option : --

Q.13 Select the most appropriate synonym of the given word.

Solitary

- Ans 1. Awkward
 2. Single
 3. Hardship
 4. Joyful

Question ID : 26433087914
Status : Not Answered
Chosen Option : --

Q.14 Select the most appropriate ANTONYM of the word given in the brackets to fill in the blank and complete the sentence.

I don't want to offend him, so I'm hesitant to say or do anything _____ (polite).

- Ans 1. bluff
 2. abrupt
 3. rude
 4. kind

Question ID : 26433089838
Status : Not Answered
Chosen Option : --

Q.15 Select the most appropriate option that can substitute the underlined segment in the given sentence. If there is no need to substitute it, select 'No substitution'.

Because I had to catch the train, and as we were short on time, I forget to pack my toothbrush for our vacation.

- Ans 1. No substitution
 2. I have forgot to pack my toothbrush for our vacation
 3. I have forget to pack my toothbrush for our vacation
 4. I forgot to pack my toothbrush for our vacation

Question ID : 264330101022
Status : Not Answered
Chosen Option : --

Comprehension:

In the following passage, some words have been deleted. Read the passage carefully and select the most appropriate option to fill in each blank.

My breath is halted, like gasping for air (1) _____ crying far too long and hard. It is like a hiccup, with a shivering sharpness (2) _____ nerves. It is like icicles running (3) _____ your spine or aluminum in your mouth, an eerie amount of emotions that cannot compare (4) _____ the actual feelings you've managed to live (5) _____. I just watched you die; I say to myself silently.

SubQuestion No : 16

Q.16 Select the most appropriate option to fill in blank number 1.

Ans 1. under

2. after

3. about

4. in

Question ID : 26433091381

Status : Not Answered

Chosen Option : --

Comprehension:

In the following passage, some words have been deleted. Read the passage carefully and select the most appropriate option to fill in each blank.

My breath is halted, like gasping for air (1) _____ crying far too long and hard. It is like a hiccup, with a shivering sharpness (2) _____ nerves. It is like icicles running (3) _____ your spine or aluminum in your mouth, an eerie amount of emotions that cannot compare (4) _____ the actual feelings you've managed to live (5) _____. I just watched you die; I say to myself silently.

SubQuestion No : 17

Q.17 Select the most appropriate option to fill in blank number 2.

Ans 1. from

2. between

3. around

4. of

Question ID : 26433091382

Status : Not Answered

Chosen Option : --

Comprehension:

In the following passage, some words have been deleted. Read the passage carefully and select the most appropriate option to fill in each blank.

My breath is halted, like gasping for air (1) _____ crying far too long and hard. It is like a hiccup, with a shivering sharpness (2) _____ nerves. It is like icicles running (3) _____ your spine or aluminum in your mouth, an eerie amount of emotions that cannot compare (4) _____ the actual feelings you've managed to live (5) _____. I just watched you die; I say to myself silently.

SubQuestion No : 18

Q.18 Select the most appropriate option to fill in blank number 3.

- Ans 1. down
 2. besides
 3. thorough
 4. among

Question ID : 26433091383
Status : Not Answered
Chosen Option : --

Comprehension:

In the following passage, some words have been deleted. Read the passage carefully and select the most appropriate option to fill in each blank.

My breath is halted, like gasping for air (1) _____ crying far too long and hard. It is like a hiccup, with a shivering sharpness (2) _____ nerves. It is like icicles running (3) _____ your spine or aluminum in your mouth, an eerie amount of emotions that cannot compare (4) _____ the actual feelings you've managed to live (5) _____. I just watched you die; I say to myself silently.

SubQuestion No : 19

Q.19 Select the most appropriate option to fill in blank number 4.

- Ans 1. inside
 2. away
 3. across
 4. to

Question ID : 26433091384
Status : Not Answered
Chosen Option : --

Comprehension:

In the following passage, some words have been deleted. Read the passage carefully and select the most appropriate option to fill in each blank.

My breath is halted, like gasping for air (1) _____ crying far too long and hard. It is like a hiccup, with a shivering sharpness (2) _____ nerves. It is like icicles running (3) _____ your spine or aluminum in your mouth, an eerie amount of emotions that cannot compare (4) _____ the actual feelings you've managed to live (5) _____. I just watched you die; I say to myself silently.

SubQuestion No : 20

Q.20 Select the most appropriate option to fill in blank number 5.

- Ans
- 1. out
 - 2. instead
 - 3. through
 - 4. within

Question ID : 26433091385
Status : Not Answered
Chosen Option : --

Section : Part-D-Hindi

Q.1 सज्जन का सत्कार होता है और दुर्जन का _____।

सत्कार के विलोम शब्द से वाक्य पूर्ण करें।

- Ans
- 1. स्वागत
 - 2. अपमान
 - 3. तिरस्कार
 - 4. परिष्कार

Question ID : 26433080876
Status : Answered
Chosen Option : 3

Q.2 भारतीय सभ्यता में अलंकार का विशेष महत्त्व है।

निम्न में से कौन-सा शब्द, वाक्य में प्रयुक्त 'अलंकार' शब्द का पर्यायवाची शब्द नहीं है?

- Ans
- 1. छंद
 - 2. आभूषण
 - 3. सज्जा
 - 4. सजावट

Question ID : 26433080860
Status : Answered
Chosen Option : 3

Q.3 निम्नलिखित विकल्पों में से 'जो आदर करने योग्य हो' वाक्यांश के लिए एक सार्थक शब्द क्या होगा ?

- Ans 1. आदरणीय
 2. आशावान
 3. ताकतवर
 4. शक्तिमान

Question ID : 26433062467
Status : Answered
Chosen Option : 1

Q.4 निम्नलिखित में से शुद्ध वाक्य है-

- Ans 1. बुरी खबर कानों- कान फैल जाती है।
 2. बुरी खबर कानू- कानू फैल जाती है।
 3. बुरी खबर कान- कान फैल जाती है।
 4. बुरी खबर कानो- हाथ फैल जाती है।

Question ID : 26433066847
Status : Answered
Chosen Option : 1

Q.5 दिए गए वाक्य में रेखांकित अंश के स्थान पर सबसे उपयुक्त विकल्प कौन-सा होगा?

गोली लगते ही उनका प्राण उड़ गया।

- Ans 1. उनकी प्राण उड़ गई।
 2. उनको प्राण उड़ गया।
 3. उनके प्राण उड़ गए।
 4. उनके प्राण उड़ गई।

Question ID : 26433079187
Status : Answered
Chosen Option : 3

Q.6 जिसका तेज निकल गया है।

दिए गए वाक्यांश के लिए एक शब्द होगा-

- Ans 1. तेजोदीप्त
 2. तेजोमय
 3. निस्तेज
 4. तेजस्वी

Question ID : 26433070056
Status : Answered
Chosen Option : 1

Q.7 वाक्य में रेखांकित शब्द के स्थान पर पर्यायवाची शब्द को लिखकर वाक्य को पूरा कीजिए।

पति-पत्नी के झगड़े का हेतु क्या हो सकता है?

- Ans 1. कारण
 2. औचित्य
 3. विषय
 4. महत्त्व

Question ID : 26433065697
Status : Answered
Chosen Option : 1

Q.8 सामने शेर को आते देखकर शिखर के _____ खड़े हो गये।
रिक्त स्थान की पूर्ति उचित मुहावरे द्वारा कीजिए।

- Ans 1. मित्र
 2. रोंगटे
 3. पैर
 4. बाल

Question ID : 26433062613
Status : Answered
Chosen Option : 2

Q.9 विकल्पों में से उचित अवधिवाचक क्रिया विशेषण चयन कीजिए।

- Ans 1. हर रोज, हर बार
 2. नित्य, लगातार
 3. इधर, उधर
 4. वह, कोई

Question ID : 26433063049
Status : Answered
Chosen Option : 1

Q.10 निम्नलिखित वाक्य में रेखांकित शब्द के स्थान पर उपयुक्त पर्यायवाची शब्द कौन-सा होगा?

ईश्वर मानव का सृजन करके वंदनीय हो गया।

- Ans 1. निर्माण
 2. जन्म
 3. उत्पत्ति
 4. पैदावार

Question ID : 26433066902
Status : Answered
Chosen Option : 1

Q.11 'मूर्ख' के समानार्थी शब्द से वाक्य पूर्ण कीजिए।

_____ व्यक्ति में समझने की शक्ति का नितांत अभाव है।

- Ans
- 1. अनभिज्ञ
 - 2. अचर
 - 3. मूढ़
 - 4. अनजान

Question ID : 26433063097
Status : Answered
Chosen Option : 3

Q.12 माता- पिता पर आदर करना चाहिए। इस वाक्य में अशुद्ध शब्द है-

- Ans
- 1. आदर
 - 2. चाहिए
 - 3. पर
 - 4. माता- पिता

Question ID : 26433091303
Status : Answered
Chosen Option : 3

Q.13 भाववाचक संज्ञा शब्द से प्रयुक्त गलत वाक्य को पढ़कर विकल्पों में से शुद्ध वाक्य छाँटिए।

उनकी जवान चला गया पर अहंकार गया नहीं।

- Ans
- 1. उनका जवानी चली गयी पर अहंकार गया नहीं।
 - 2. उनकी जवानी चली गयी पर अहंकार गया नहीं।
 - 3. उनके जवानी चला गया पर अहंकार गया नहीं।
 - 4. उनके जवान चले गए पर अहंकार गया नहीं।

Question ID : 26433063031
Status : Answered
Chosen Option : 2

Q.14 रेखांकित अंश के स्थान पर सबसे उपयुक्त विकल्प इनमें से कौन-सा है?

गतवर्ष वह दिल्ली जाने वाला है।

- Ans
- 1. पिछले वर्ष
 - 2. विगत वर्ष
 - 3. अगले वर्ष
 - 4. उस वर्ष

Question ID : 26433066875
Status : Answered
Chosen Option : 3

Q.15 दिए गए मुहावरे में रेखांकित अंश के स्थान पर सबसे उपयुक्त विकल्प कौन-सा होगा?
'छठी का मिठाई याद आना।'

- Ans 1. दूध
 2. नमक
 3. पकवान
 4. चीनी

Question ID : 26433066743
Status : Answered
Chosen Option : 1

Comprehension:

निम्नलिखित गद्यांश में से कुछ शब्द हटा दिए गए हैं। दिए गए विकल्पों की सहायता से रिक्त स्थानों की पूर्ति कीजिए। प्रत्येक संख्या के लिए उपयुक्त विकल्प का चयन कीजिए।

राजप्पा ने नागराजन के 1. _____ को देखने की 2. _____ कभी नहीं प्रकट की। लेकिन जब 3. _____ लड़के उसे देख रहे होते तो वह नीची 4. _____ से देख लेता। सचमुच नागराजन का अलबम 5. _____ प्यारा था।

SubQuestion No : 16

Q.16 रिक्त स्थान 1 की पूर्ति के लिए सर्वाधिक उपयुक्त विकल्प का चयन कीजिए।

- Ans 1. कार
 2. अलबम
 3. किताब
 4. श्रेय

Question ID : 26433079603
Status : Answered
Chosen Option : 2

Comprehension:

निम्नलिखित गद्यांश में से कुछ शब्द हटा दिए गए हैं। दिए गए विकल्पों की सहायता से रिक्त स्थानों की पूर्ति कीजिए। प्रत्येक संख्या के लिए उपयुक्त विकल्प का चयन कीजिए।

राजप्पा ने नागराजन के 1. _____ को देखने की 2. _____ कभी नहीं प्रकट की। लेकिन जब 3. _____ लड़के उसे देख रहे होते तो वह नीची 4. _____ से देख लेता। सचमुच नागराजन का अलबम 5. _____ प्यारा था।

SubQuestion No : 17

Q.17 रिक्त स्थान 2 की पूर्ति के लिए सर्वाधिक उपयुक्त विकल्प का चयन कीजिए।

- Ans 1. प्रसन्नता
 2. लत
 3. हुड़क
 4. इच्छा

Question ID : 26433079604
Status : Answered
Chosen Option : 4

Comprehension:

निम्नलिखित गद्यांश में से कुछ शब्द हटा दिए गए हैं। दिए गए विकल्पों की सहायता से रिक्त स्थानों की पूर्ति कीजिए। प्रत्येक संख्या के लिए उपयुक्त विकल्प का चयन कीजिए।

राजप्पा ने नागराजन के 1. _____ को देखने की 2. _____ कभी नहीं प्रकट की। लेकिन जब 3. _____ लड़के उसे देख रहे होते तो वह नीची 4. _____ से देख लेता। सचमुच नागराजन का अलबम 5. _____ प्यारा था।

SubQuestion No : 18

Q.18 रिक्त स्थान 3 की पूर्ति के लिए सर्वाधिक उपयुक्त विकल्प का चयन कीजिए।

- Ans 1. दूसरे
 2. तीसरे
 3. पहले
 4. चौथे

Question ID : 26433079605

Status : Answered

Chosen Option : 3

Comprehension:

निम्नलिखित गद्यांश में से कुछ शब्द हटा दिए गए हैं। दिए गए विकल्पों की सहायता से रिक्त स्थानों की पूर्ति कीजिए। प्रत्येक संख्या के लिए उपयुक्त विकल्प का चयन कीजिए।

राजप्पा ने नागराजन के 1. _____ को देखने की 2. _____ कभी नहीं प्रकट की। लेकिन जब 3. _____ लड़के उसे देख रहे होते तो वह नीची 4. _____ से देख लेता। सचमुच नागराजन का अलबम 5. _____ प्यारा था।

SubQuestion No : 19

Q.19 रिक्त स्थान 4 की पूर्ति के लिए सर्वाधिक उपयुक्त विकल्प का चयन कीजिए।

- Ans 1. पाँव
 2. हथेली
 3. आवाज
 4. आँखों

Question ID : 26433079606

Status : Answered

Chosen Option : 4

Comprehension:

निम्नलिखित गद्यांश में से कुछ शब्द हटा दिए गए हैं। दिए गए विकल्पों की सहायता से रिक्त स्थानों की पूर्ति कीजिए। प्रत्येक संख्या के लिए उपयुक्त विकल्प का चयन कीजिए।

राजप्पा ने नागराजन के 1. _____ को देखने की 2. _____ कभी नहीं प्रकट की। लेकिन जब 3. _____ लड़के उसे देख रहे होते तो वह नीची 4. _____ से देख लेता। सचमुच नागराजन का अलबम 5. _____ प्यारा था।

SubQuestion No : 20

Q.20 रिक्त स्थान 5 की पूर्ति के लिए सर्वाधिक उपयुक्त विकल्प का चयन कीजिए।

- Ans**
- 1. ठीक
 - 2. साधारण
 - 3. बेहद
 - 4. हलका

Question ID : 26433079607

Status : Answered

Chosen Option : 3

KD Job Updates

Constable GD in CAPFs SSF Rifleman GD in Assam Rifles and Sepoy in NCB Examination 2022

Roll Number	KD Job Updates
Candidate Name	KD Job Updates
Venue Name	Pawan Ganga Educational Centre 1
Exam Date	31/01/2023
Exam Time	11:45 AM - 12:45 PM
Subject	Constable GD Examination 2022

Section : Part-A-General Intelligence and Reasoning

Q.1 पाँच व्यक्ति, E, F, G, H और I एक सीधी पंक्ति में उत्तर की ओर मुख करके बैठे हैं। H के बाईं ओर केवल तीन व्यक्ति बैठे हैं, और F के दाईं ओर केवल तीन व्यक्ति बैठे हैं। E, F के बाईं ओर ठीक बगल में बैठा है, और केवल दो व्यक्ति G के बाईं ओर बैठे हैं। पंक्ति के अंतिम दाएँ सिरे पर कौन बैठा है?

- Ans
- 1. F
 - 2. I
 - 3. E
 - 4. G

Question ID : 26433056048

Status : Answered

Chosen Option : 2

Q.2 तीन कथनों के बाद तीन निष्कर्ष I, II और III दिए गए हैं। कथनों को सत्य मानते हुए, भले ही वे सामान्य रूप से ज्ञात तथ्यों से भिन्न प्रतीत होते हों, निर्धारित करें कि कौन-सा/से निष्कर्ष, कथनों का तार्किक रूप से अनुसरण करता है/करते हैं।

कथन:

सभी जेल नाव हैं।

सभी पंप नाव हैं।

सभी नाव जहाज हैं।

निष्कर्ष:

I. सभी पंप जहाज हैं।

II. सभी जहाज जेल हैं।

III. कुछ जहाज पंप हैं।

- Ans
- 1. केवल निष्कर्ष I और III अनुसरण करते हैं
 - 2. केवल निष्कर्ष II और III अनुसरण करते हैं
 - 3. सभी निष्कर्ष अनुसरण करते हैं
 - 4. केवल निष्कर्ष I और II अनुसरण करते हैं

Question ID : 26433082305

Status : Answered

Chosen Option : 1

Q.3 छः विद्यार्थी - कबीर, मेस्सी, रोनाल्डो, शेरोन, राज और मूसा एक वृत्ताकार मेज के परितः मेज के केंद्र की ओर मुख करके बैठे हैं। मूसा, शेरोन के बाईं ओर दूसरे स्थान पर बैठा है। कबीर, मूसा के बाईं ओर दूसरे स्थान पर बैठा है। रोनाल्डो, कबीर के बाईं ओर ठीक बगल में बैठा है। राज, मूसा के बाईं ओर ठीक बगल में बैठा है। मेस्सी, शेरोन और मूसा के ठीक बगल में है। रोनाल्डो और मेस्सी के बीच में कौन बैठा है?

- Ans
- 1. मूसा
 - 2. राज
 - 3. कबीर
 - 4. शेरोन

Question ID : 26433081786

Status : Answered

Chosen Option : 2

Q.4 जब दर्पण को दर्शाए गए तरीके से MN पर रखा जाता है तो दिए गए पैटर्न की सही दर्पण छवि का चयन कीजिए।



- Ans
- 1. 9 p a r T I A L 8
 - 2. 8 J A I T 1 6 q e
 - 3. J A 8 I T 1 6 q e
 - 4. T 1 6 q e J A L 8

Question ID : 26433082902

Status : Answered

Chosen Option : 2

Q.5 दिए गए विकल्पों में से उस अक्षर-समूह का चयन कीजिए जो निम्न श्रृंखला में प्रश्न-चिह्न (?) के स्थान पर आ सकता है।
BELF, WZTN, RUBV, ? , HKRL

- Ans
- 1. MGDV
 - 2. TBDE
 - 3. MPJD
 - 4. TJLS

Question ID : 26433074755

Status : Answered

Chosen Option : 3

Q.6 निम्नलिखित में से कौन-सी संख्या दी गई श्रृंखला में प्रश्न-चिह्न (?) के स्थान पर आएगी?
9, 35, 91, 189, 341, ?

Ans 1. 1210

2. 559

3. 497

4. 713

Question ID : 26433082001

Status : Not Answered

Chosen Option : --

Q.7 किस विकल्प में निम्नलिखित शब्दों का वह क्रम दिया गया है, जिस क्रम में वे अंग्रेजी शब्दकोश में आते हैं?

1 eagle

2 eager

3 eastern

4 earth

5 earring

Ans 1. 2,1,5,3,4

2. 2,5,1,4,3

3. 2,5,1,3,4

4. 2,1,5,4,3

Question ID : 26433069316

Status : Answered

Chosen Option : 4

Q.8 एक कूट भाषा में 'MORBID' को '61' लिखा जाता है और 'PARIAH' को '53' लिखा जाता है। उसी भाषा में 'RAVISHED' को कैसे लिखा जाएगा?

Ans 1. 85

2. 88

3. 86

4. 96

Question ID : 26433068937

Status : Not Answered

Chosen Option : --

Q.9 उस विकल्प का चयन कीजिए जो तीसरे शब्द से उसी प्रकार संबंधित है जिस प्रकार दूसरा शब्द पहले शब्द से संबंधित है। (शब्दों को अर्थपूर्ण शब्दों के रूप में मानना है और उन्हें शब्द में अक्षरों/व्यंजनों/स्वरों की संख्या के आधार पर एक-दूसरे से संबंधित नहीं करना है।)
नई दिल्ली : भारत :: कीव : ?

Ans 1. मोलदोवा

2. मंगोलिया

3. यूक्रेन

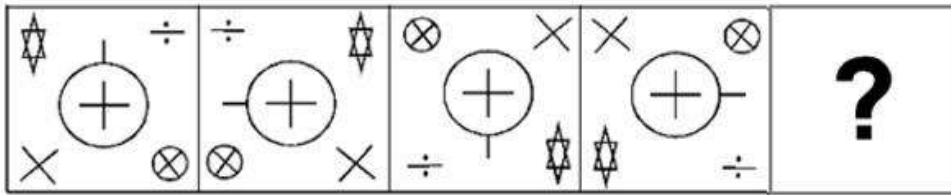
4. रूस

Question ID : 26433079477

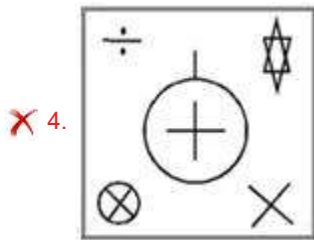
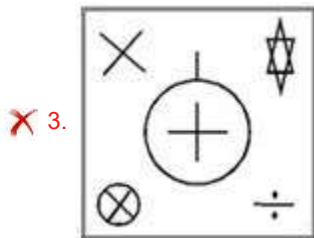
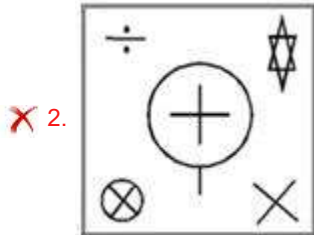
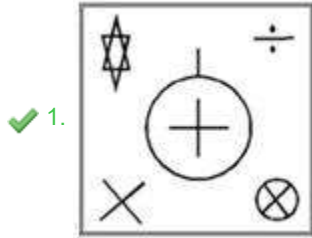
Status : Answered

Chosen Option : 3

Q.10 दिए गए विकल्पों में से उस आकृति का चयन करें जो निम्नलिखित श्रृंखला में प्रश्नवाचक चिह्न (?) का स्थान ले सकती है।



Ans



KD Job Updates

Question ID : 26433080493

Status : Answered

Chosen Option : 1

Q.11 नीचे दिए गए समीकरण को गणितीय रूप से सही बनाने के लिए किन दो चिह्नों को परस्पर बदलना चाहिए?

$$17 + 112 \div 16 - 8 \times 64 = 175$$

- Ans
- ✗ 1. + और ÷
 - ✓ 2. + और ×
 - ✗ 3. + और -
 - ✗ 4. ÷ और ×

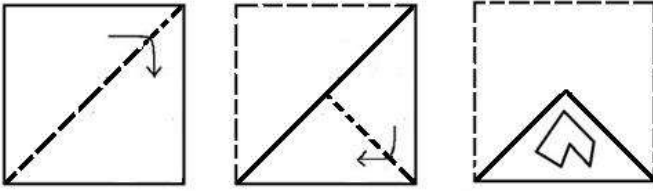
Question ID : 264330117527

Status : Answered

Chosen Option : 2

Q.12

निम्नलिखित आकृतियां एक कागज को मोड़ने का क्रम दिखाती हैं। अंतिम आकृति मोड़े हुए कागज को काटने का तरीका दिखाती है। उस आकृति का चयन करें जो कागज को खोले जाने पर उसके खुले रूप से सबसे अधिक मिलती-जुलती है।



Ans

✗ 1.



✓ 2.



✗ 3.



✗ 4.



Question ID : 26433087094

Status : Answered

Chosen Option : 2

Q.13 यदि '+' का अर्थ '÷', '-' का अर्थ '+', 'x' का अर्थ '-' और '÷' का अर्थ 'x' है, तो निम्नलिखित व्यंजक का मान क्या होगा?

$$[\{ (49 \times 12) - (6 \div 2) \} + (4 - 3)] \div 5$$

- Ans
- 1. 2
 - 2. 1
 - 3. 35
 - 4. 10

Question ID : 26433086259

Status : Answered

Chosen Option : 3

Q.14 निम्नलिखित में से कौन-सी संख्याएं दी गई श्रंखला में प्रश्न-चिह्नों (?) के स्थान पर आएंगी?
119, 117, 114, 109, ?, 91, ?, 61

- Ans
- 1. 102, 78
 - 2. 107, 68
 - 3. 101, 80
 - 4. 100, 74

Question ID : 26433070223

Status : Answered

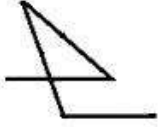
Chosen Option : 1

KD Job Updates

Q.15

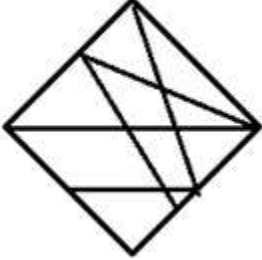
निम्नलिखित विकल्पों में से उस आकृति का चयन करें जिसमें नीचे दी गई

आकृति निहित है (आकृति को घुमाने की अनुमति नहीं है)।

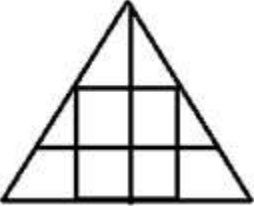


Ans

✗ 1.



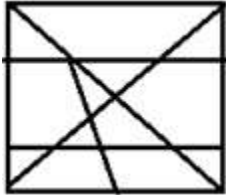
✗ 2.



✗ 3.



✓ 4.



KD Job Updates

Question ID : 26433069539

Status : Answered

Chosen Option : 4

Q.16 एक कूट भाषा में 'dark colors' को 'yu nu', 'days are bright' को 'wu tu ku', 'nights are dark' को 'ku nu pu', 'paint bright' को 'wu ru' के रूप में कूटबद्ध किया जाता है। शब्द 'nights' के लिए कूट क्या होगा?

Ans ✗ 1. ku

✓ 2. pu

✗ 3. nu

✗ 4. yu

Question ID : 26433082275

Status : Answered

Chosen Option : 2

Q.17 कौन-सा अक्षर-समूह दी गई श्रृंखला में प्रश्नचिह्न (?) के स्थान पर आकर श्रृंखला को पूर्ण करेगा?
ETAX, FRDT, GPGP, ?, ILMH

- Ans 1. HMJI
 2. HNJL
 3. HMNI
 4. HNKM

Question ID : 26433068573

Status : Answered

Chosen Option : 2

Q.18 उस विकल्प का चयन करें जो पांचवें अक्षर-समूह से उसी प्रकार संबंधित है जिस प्रकार दूसरा अक्षर-समूह, पहले अक्षर-समूह से संबंधित है और चौथा अक्षर-समूह, तीसरे अक्षर-समूह से संबंधित है।
FVL : MXI :: PCJ : KES :: DKN : ?

- Ans 1. OMG
 2. PNH
 3. PMH
 4. ONG

Question ID : 26433057889

Status : Answered

Chosen Option : 1

Q.19 एक निश्चित कूट भाषा में,
'A + B' का अर्थ है कि 'A, B का भाई है',
'A - B' का अर्थ है कि 'A, B की माता है',
'A × B' का अर्थ है कि 'A, B का पिता है' और
'A ÷ B' का अर्थ है कि 'A, B का पुत्र है'।
यदि $P \times Q \times R + D \div S - B$ है, तो निम्नलिखित में से कौन-सा कथन सही नहीं है?

- Ans 1. Q, B का पिता है।
 2. P, B का नाना है।
 3. R, P का पोता है।
 4. R, B का भाई है।

Question ID : 26433070374

Status : Answered

Chosen Option : 2

Q.20 उस विकल्प का चयन करें जो चौथे पद से उसी प्रकार संबंधित है, जिस प्रकार पहला पद दूसरे पद से और पांचवां पद छठे पद से संबंधित है।
6 : 109 :: ? : 257 :: 10 : 501

- Ans 1. 9
 2. 8
 3. 12
 4. 11

Question ID : 26433069088

Status : Answered

Chosen Option : 2

Q.1 बेरोजगारी के _____ के लिए औद्योगिक विकास एक पूर्व शर्त है।

- Ans
- 1. प्रोत्साहन
 - 2. योग
 - 3. उन्मूलन
 - 4. त्वरण

Question ID : 264330115411

Status : Answered

Chosen Option : 3

Q.2 भारतीय संविधान का भाग IVA किससे संबंधित है?

- Ans
- 1. राज्य के नीति निर्देशक सिद्धांतों
 - 2. पुलिस का नैतिक कर्तव्य
 - 3. मूल कर्तव्यों
 - 4. मूल अधिकारों

Question ID : 264330115632

Status : Answered

Chosen Option : 1

Q.3 जब रॉबर्ट हुक ने एक साधारण आवर्धक उपकरण के नीचे कॉर्क के टुकड़ों को देखा तो उन्होंने कौन सा शब्द गढ़ा था?

- Ans
- 1. स्टाल
 - 2. जेल
 - 3. कोशिका
 - 4. ईट

Question ID : 264330115234

Status : Answered

Chosen Option : 3

Q.4 समुद्रगुप्त ने दक्षिणापथ के कितने शासकों को पराजित किया था?

- Ans
- 1. 12
 - 2. 8
 - 3. 10
 - 4. 3

Question ID : 26433085219

Status : Not Answered

Chosen Option : --

Q.5 स्टंपिंग' शब्द निम्नलिखित में से किस खेल से संबंधित है?

- Ans 1. क्रिकेट
 2. बेसबॉल
 3. बास्केटबाल
 4. टेनिस

Question ID : 264330116269

Status : Answered

Chosen Option : 1

Q.6 निम्नलिखित में से किसे मार्च 2022 में हिमाचल प्रदेश, भारत से राज्य सभा के सदस्य के रूप में निर्वाचित किया गया था?

- Ans 1. सिकंदर कुमार
 2. के. जी. केन्ये
 3. उम्मन चांडी
 4. जितेन्द्र सिंह

Question ID : 264330114947

Status : Answered

Chosen Option : 3

Q.7 मेक इन इंडिया योजना, भारत सरकार द्वारा वर्ष _____ में शुरू की गई थी।

- Ans 1. 2014
 2. 2019
 3. 2018
 4. 2016

Question ID : 264330116201

Status : Answered

Chosen Option : 1

Q.8 जब सोडियम सल्फेट बेरियम क्लोराइड के साथ अभिक्रिया करता है, तो कौन सा उपोत्पाद बनता है?

- Ans 1. सोडियम क्लोराइड
 2. बेरियम हाइड्रॉक्साइड
 3. बेरियम ऑक्साइड
 4. सोडियम ऑक्साइड

Question ID : 26433091478

Status : Answered

Chosen Option : 1

Q.9 अरुणाचल प्रदेश के पहले हरितक्षेत्र हवाई अड्डे का नाम क्या है?

- Ans
- 1. डोनी पोलो हवाईअड्डा
 - 2. कल्याणी हवाईअड्डा
 - 3. सिंधुदुर्ग हवाईअड्डा
 - 4. राजकोट हवाईअड्डा

Question ID : 264330115561

Status : Not Answered

Chosen Option : --

Q.10 निम्नलिखित में से कौन सा लोक-नृत्य भारतीय राज्य महाराष्ट्र में मुख्य रूप से नहीं किया जाता है?

- Ans
- 1. लावणी
 - 2. कोली
 - 3. रउफ
 - 4. तमाशा

Question ID : 26433071485

Status : Answered

Chosen Option : 3

Q.11 बैंक दर वह दर है जिस पर _____।

- Ans
- 1. केंद्रीय बैंक सरकार से ऋण लेता है
 - 2. केंद्रीय बैंक वाणिज्यिक बैंकों को ऋण देता है।
 - 3. वाणिज्यिक बैंक केंद्रीय बैंक को ऋण देते हैं
 - 4. वाणिज्यिक बैंक सरकार को ऋण देते हैं

Question ID : 264330115314

Status : Answered

Chosen Option : 2

Q.12 भारत के 15वें राष्ट्रपति के रूप में चुने जाने से पहले, द्रौपदी मुर्मू निम्नलिखित में से किस राज्य की राज्यपाल थीं?

- Ans
- 1. बिहार
 - 2. ओडिशा
 - 3. झारखंड
 - 4. पश्चिम बंगाल

Question ID : 264330115017

Status : Answered

Chosen Option : 3

Q.13 Which rocks are formed from solidification and cooling of magma?

Ans 1. Igneous rocks

2. Chemical Sedimentary Rocks

3. Metamorphic rocks

4. Sedimentary rocks

Question ID : 264330115997

Status : Answered

Chosen Option : 3

Q.14 यद्यपि निजी क्षेत्रक में आने वाले उद्योगों का भी एक वर्ग था, लेकिन इस क्षेत्रक को लाइसेंस पद्धति के माध्यम से राज्य के नियंत्रण में रखा गया था। सरकार से लाइसेंस प्राप्त किए बिना किसी भी नए उद्योग की अनुमति नहीं दी जाती थी। उपरोक्त पंक्तियाँ निम्नलिखित में से किसके बारे में हैं?

Ans 1. IPR-1958

2. IPR-1952

3. IPR-1951

4. IPR-1956

Question ID : 26433054775

Status : Not Answered

Chosen Option : --

Q.15 शरद पूर्णिमा को भारत के कुछ हिस्सों में देवी _____ से जोड़ा जाता है।

Ans 1. सीता

2. लक्ष्मी

3. गौरी

4. पार्वती

Question ID : 264330115123

Status : Not Answered

Chosen Option : --

Q.16 _____ और _____ ने काउंसिल राजनीति को वापस लेने के लिए कांग्रेस के तहत स्वराज पार्टी का गठन किया।

Ans 1. चित्तरंजन दास और मोतीलाल नेहरू

2. चित्तरंजन दास और जवाहरलाल नेहरू

3. लोकमान्य तिलक और मोतीलाल नेहरू

4. लोकमान्य तिलक और जवाहरलाल नेहरू

Question ID : 26433090586

Status : Answered

Chosen Option : 1

Q.17 फ्रांसीसी एसोसिएशन आर्काइव्स इंटरनेशनल डे ला डांस का मेडल और डिप्लोमा प्राप्त करने वाले पहले भारतीय का नाम क्या था?

- Ans
- 1. अलरमेल वल्ली
 - 2. अमाला अक्किनेनी
 - 3. मृणालिनी साराभाई
 - 4. जतिन गोस्वामी

Question ID : 264330115855

Status : Not Answered

Chosen Option : --

Q.18 बैडमिंटन एकल में, खेल की शुरुआत में (0-0) और जब सर्वर का स्कोर सम होता है, तो सर्वर कोर्ट के किस तरफ से सर्व करता है?

- Ans
- 1. बाई सर्विस साइड
 - 2. दायां सर्विस कोर्ट
 - 3. कोई भी सर्विस कोर्ट
 - 4. सर्व नहीं कर सकता

Question ID : 264330115927

Status : Not Answered

Chosen Option : --

Q.19 भारत के संविधान के निम्नलिखित में से किस अनुच्छेद के अनुसार सर्वोच्च न्यायालय अपने निर्णयों या आदेशों की समीक्षा कर सकता है?

- Ans
- 1. अनुच्छेद 137
 - 2. अनुच्छेद 134
 - 3. अनुच्छेद 120
 - 4. अनुच्छेद 147

Question ID : 26433086839

Status : Answered

Chosen Option : 1

Q.20 2011 की भारत की जनगणना के अनुसार, बिहार राज्य भारत का _____ सबसे अधिक आबादी वाला राज्य था।

- Ans
- 1. चौथा
 - 2. दूसरा
 - 3. पांचवां
 - 4. तीसरा

Question ID : 264330116064

Status : Answered

Chosen Option : 2

Q.1 टीना एक बैंक खाते में 48000 रुपए डालती है। वह इसे 6 वर्ष बाद निकालती है, अब इसका मूल्य 60000 रुपए हैं। प्रतिशत वृद्धि है:

- Ans
- 1. 12 प्रतिशत
 - 2. 25 प्रतिशत
 - 3. 28 प्रतिशत
 - 4. 22 प्रतिशत

Question ID : 264330116805

Status : Answered

Chosen Option : 2

Q.2 एक कॉलेज क्लब में छात्रों की एक निश्चित संख्या की औसत आयु 20 वर्ष है। बाद में, 27 नए छात्र, जिनकी औसत आयु 22 वर्ष है, क्लब में शामिल होते हैं। 12 छात्र जिनकी औसत आयु 19 वर्ष है, उन्होंने क्लब छोड़ दिया। इस परिवर्तन के परिणामस्वरूप सभी छात्रों की औसत आयु में 2 वर्ष की वृद्धि होती है। क्लब में छात्रों की वर्तमान संख्या कितनी है?

- Ans
- 1. 42
 - 2. 15
 - 3. 25
 - 4. 33

Question ID : 26433081064

Status : Answered

Chosen Option : 4

Q.3 12 m लंबे, 8 m चौड़े और 3 m ऊंचे कमरे में रखे जा सकने वाले सबसे लंबे खंभे की लंबाई क्या है (दो दशमलव स्थानों तक सही उत्तर दीजिए)?

- Ans
- 1. 18.36 m
 - 2. 16.25 m
 - 3. 14.73 m
 - 4. 20.58 m

Question ID : 26433083062

Status : Answered

Chosen Option : 3

Q.4 एक लड़की अपने घर से 350 m की दूरी पर स्थित पार्क तक पैदल जाती है। उसे पार्क तक पहुँचने में 3 मिनट और वापस आने में 4 मिनट लगे। लड़की की औसत चाल (km/h में) क्या है?

- Ans
- 1. 6 km/h
 - 2. 4 km/h
 - 3. 6.5 km/h
 - 4. 5 km/h

Question ID : 26433080365

Status : Answered

Chosen Option : 3

Q.5 A ने अपने पोते P और Q के नाम पर एक बैंक में कुल Rs.25,500 जमा किए, जो वर्तमान में क्रमशः 13 वर्ष और 14 वर्ष के हैं। उसने अपने धन को इस प्रकार विभाजित किया कि 25 वर्ष की आयु प्राप्त करने पर उन्हें समान राशि प्राप्त हो। यदि बैंक वार्षिक रूप से चक्रवृद्धि 4% की दर से ब्याज देता है, तो Q के नाम से कितनी राशि जमा की गई है?

- Ans
- 1. Rs.13,000
 - 2. Rs.14,000
 - 3. Rs.12,500
 - 4. Rs.12,000

Question ID : 26433065290

Status : Not Answered

Chosen Option : --

Q.6 एक अर्धगोलाकार कटोरा मोटे स्टील का बना है, जिसकी मोटाई 0.50 cm है। यदि कटोरे का बाहरी व्यास 43 cm है, तो कटोरे का आयतन क्या है?

- Ans
- 1. 58212 cm³
 - 2. 29106 cm³
 - 3. 87318 cm³
 - 4. 19404 cm³

Question ID : 26433072978

Status : Answered

Chosen Option : 1

Q.7 1 kg चीनी का क्रय मूल्य Rs.50 है। एक दुकानदार इसे Rs.55 प्रति kg की दर से बेचता है। अपने लाभ को बढ़ाने के लिए दुकानदार 1 kg के स्थान पर केवल 900 ग्राम चीनी तोलता है। दुकानदार द्वारा अर्जित प्रतिशत लाभ (लगभग) निर्धारित कीजिए।

- Ans
- 1. 28%
 - 2. 22%
 - 3. 10%
 - 4. 12%

Question ID : 26433071313

Status : Answered

Chosen Option : 2

Q.8 यदि $a + b : b + c : c + a = 2 : 3 : 5$ और $a + b + c = 20$, तो c का मान _____ है।

- Ans
- 1. 2
 - 2. 12
 - 3. 10
 - 4. 5

Question ID : 26433073022

Status : Answered

Chosen Option : 4

Q.9 एक व्यक्ति अपनी नाव से धारा के अनुकूल 525 m की दूरी 250 सेकंड में तय करता है और $7\frac{1}{2}$ मिनट में वापस आता है। शांत जल में नौकायन की चाल (km/h में) क्या होगी?

- Ans
- 1. 5.42 km/h
 - 2. 6.66 km/h
 - 3. 5.88 km/h
 - 4. 4.88 km/h

Question ID : 26433074997

Status : Answered

Chosen Option : 1

Q.10 यदि एक निश्चित धनराशि पर 5% वार्षिक की दर से 3 वर्षों के लिए वार्षिक रूप से चक्रवृद्धि हुए चक्रवृद्धि ब्याज और साधारण ब्याज के बीच का अंतर Rs.183 है, तो निवेश की गई धनराशि क्या होगी?

- Ans
- 1. Rs.16,000
 - 2. Rs.20,000
 - 3. Rs.24,000
 - 4. Rs.28,000

Question ID : 26433075686

Status : Answered

Chosen Option : 3

Q.11 7 का सबसे छोटा गुणज, जिसे 6, 9, 15 और 18 से विभाजित करने पर 4 शेष बचता है, _____ है।

- Ans
- 1. 371
 - 2. 357
 - 3. 364
 - 4. 350

Question ID : 26433082348

Status : Answered

Chosen Option : 3

Q.12 P और Q मिलकर एक कार्य को 21 दिनों में पूरा कर सकते हैं। Q अकेले इसे 84 दिनों में पूरा कर सकता है। यदि Q प्रतिदिन एक दिन में दो गुना कार्य करता है, तो P और Q मिलकर लगभग कितने दिनों में कार्य पूरा करेंगे?

- Ans
- 1. 37 दिन
 - 2. 40 दिन
 - 3. 33 दिन
 - 4. 17 दिन

Question ID : 264330116885

Status : Answered

Chosen Option : 4

Q.13 2 संख्याओं में 9 का अंतर है और उनका गुणनफल 2430 है। संख्याओं का महत्तम समापवर्तक ज्ञात करें।

- Ans
- 1. 6
 - 2. 3
 - 3. 9
 - 4. 12

Question ID : 264330116664
Status : Answered
Chosen Option : 3

Q.14 धारा की दिशा में और धारा के विपरीत दिशा में एक नाव की चालें क्रमशः 16 km/h और 12 km/h हैं। धारा की चाल ज्ञात कीजिए।

- Ans
- 1. 14 km/h
 - 2. 2 km/h
 - 3. 6 km/h
 - 4. 8 km/h

Question ID : 26433066318
Status : Answered
Chosen Option : 2

Q.15 एक व्यक्ति ₹100 में 15 कलमें खरीदता है, और उन्हें ₹100 में 13 कलम की दर से बेच देता है। लाभ प्रतिशत क्या है?

- Ans
- 1. $15\frac{3}{13}$ प्रतिशत
 - 2. $13\frac{3}{13}$ प्रतिशत
 - 3. $13\frac{4}{13}$ प्रतिशत
 - 4. $15\frac{5}{13}$ प्रतिशत

Question ID : 26433079862
Status : Answered
Chosen Option : 2

Q.16 एक ओवरकोट 16% और 25% की क्रमिक छूट पर Rs.1,260 में बेचा जाता है। ओवरकोट का अंकित मूल्य ज्ञात कीजिए।

- Ans
- 1. Rs.1,800
 - 2. Rs.2,000
 - 3. Rs.1,900
 - 4. Rs.2,100

Question ID : 26433082974
Status : Answered
Chosen Option : 2

Q.17 यदि पेट्रोल की कीमत में 25 प्रतिशत की वृद्धि की जाती है, तो व्यय समान रखने के लिए एक व्यक्ति को खपत में कितनी कमी करनी चाहिए?

- Ans
- 1. 20 प्रतिशत
 - 2. 18 प्रतिशत
 - 3. 23 प्रतिशत
 - 4. 21 प्रतिशत

Question ID : 26433079849
Status : Answered
Chosen Option : 1

Q.18 6 : 11 और 8 : 9 के लिए कौन-सा संबंध सही है?

- Ans
- 1. $6 : 11 = 8 : 9$
 - 2. $8 : 9 > 6 : 11$
 - 3. $6 : 11 > 8 : 9$
 - 4. $6 : 11 \geq 8 : 9$

Question ID : 26433074930
Status : Answered
Chosen Option : 2

Q.19 एक दुकानदार कुछ फल अंकित मूल्य पर 10% की छूट पर खरीदता है। जिन्हें बेचने के लिए वह अंकित मूल्य में वृद्धि करता है। यदि वह 15% की छूट देने के बाद 25% का लाभ प्राप्त करना चाहता है, तो उसका अंकित मूल्य, मूल अंकित मूल्य से कितने प्रतिशत अधिक होना चाहिए? (निकटतम पूर्ण संख्या तक गणना करें)

- Ans
- 1. 15 प्रतिशत
 - 2. 10 प्रतिशत
 - 3. 32 प्रतिशत
 - 4. 25 प्रतिशत

Question ID : 26433081569
Status : Not Answered
Chosen Option : --

Q.20 20 महिलाएं एक काम को 16 दिनों में पूरा कर सकती हैं और 16 पुरुष इसे 15 दिनों में पूरा कर सकते हैं। एक पुरुष और एक महिला की कार्यक्षमता का अनुपात क्या है?

- Ans
- 1. 5 : 4
 - 2. 6 : 5
 - 3. 3 : 2
 - 4. 4 : 3

Question ID : 26433080363
Status : Answered
Chosen Option : 4

Q.1 Select the most appropriate synonym of the word given in brackets to fill in the blank.

The supervisor is _____ (ruthless) in his behaviour with the workers.

- Ans
- 1. careless
 - 2. senseless
 - 3. merciless
 - 4. shameless

Question ID : 26433070463
Status : Not Answered
Chosen Option : --

Q.2 Fill in the blanks with the correct homophone.

His eyes _____ up with fascination when he saw his idol standing in front of him.

- Ans
- 1. lye
 - 2. life
 - 3. lit
 - 4. lite

Question ID : 26433089751
Status : Not Answered
Chosen Option : --

Q.3 A part of the given sentence which has been underlined may contain a spelling error. Select the option that correctly rectifies the spelling error. If there is no error, select 'No error'.

Some of the islands in the Bay of Bengal are still inaccessible to the scientists.

- Ans
- 1. Inaccessible
 - 2. No error
 - 3. Inaccessiblle
 - 4. Inacceesible

Question ID : 26433071788
Status : Not Answered
Chosen Option : --

Q.4 Select the most appropriate ANTONYM of the given word.

Dispel

- Ans
- 1. Scatter
 - 2. Disburse
 - 3. Remove
 - 4. Integrate

Question ID : 26433073868
Status : Not Answered
Chosen Option : --

Q.5 Select the most appropriate synonym of the given word.
Blunt

- Ans
- 1. Valiant
 - 2. Sharp
 - 3. Cheerful
 - 4. Dull

Question ID : 26433084680
Status : Not Answered
Chosen Option : --

Q.6 Select the most appropriate ANTONYM of the given word.

Arrogant

- Ans
- 1. Haughty
 - 2. Superior
 - 3. Scornful
 - 4. Humble

Question ID : 26433086373
Status : Not Answered
Chosen Option : --

Q.7 Choose the option that can substitute the underlined segment correctly and complete the meaning of the sentence.

Meenakshi looks very beautiful in her blue dress.

- Ans
- 1. Lively
 - 2. Admiring
 - 3. Lavish
 - 4. Gorgeous

Question ID : 26433088880
Status : Not Answered
Chosen Option : --

Q.8 Select the most appropriate meaning of the underlined idiom in the given sentence.

It is hard to believe that many smokers didn't go cold turkey even after they got lung cancer.

- Ans
- 1. Withered
 - 2. Quite addictive or dangerous behaviour
 - 3. Dead
 - 4. Losing sensory inputs

Question ID : 26433072088
Status : Not Answered
Chosen Option : --

Q.9 Select the most appropriate option that can substitute the underlined segment in the given sentence.

They took a while to establish the threat.

- Ans 1. recognise the threat
 2. move the threat
 3. negotiate the threat
 4. manifest the threat

Question ID : 26433096192
Status : Not Answered
Chosen Option : --

Q.10 Select the most appropriate synonym of the given word.

Esteem

- Ans 1. Respect
 2. Excuse
 3. Ridicule
 4. Abuse

Question ID : 26433074046
Status : Not Answered
Chosen Option : --

Q.11 Choose the INCORRECTLY spelt word.

- Ans 1. Falcon
 2. Talon
 3. Palour
 4. Tailor

Question ID : 26433084609
Status : Not Answered
Chosen Option : --

Q.12 Select the most appropriate option that can substitute the underlined segment in the given sentence.

The pleasure created by the poet was primarily until his exaggerated descriptions.

- Ans 1. below his exaggerated descriptions
 2. off his exaggerated descriptions
 3. through his exaggerated descriptions
 4. beside his exaggerated descriptions

Question ID : 26433089311
Status : Not Answered
Chosen Option : --

Q.13 Select the most appropriate idiom for the underlined segment in the given sentence.

Without any question, Naresh is my good friend.

- Ans
- 1. Beyond a doubt
 - 2. Care a hang
 - 3. Account for
 - 4. A good deal of

Question ID : 26433072816
Status : Not Answered
Chosen Option : --

Q.14 The following sentence has been split into four segments. Identify the segment that contains a grammatical error.

Her bookstore flourished / because / she picks / a good location.

- Ans
- 1. because
 - 2. she picks
 - 3. Her bookstore flourished
 - 4. a good location

Question ID : 26433088095
Status : Not Answered
Chosen Option : --

Q.15 Select the most appropriate ANTONYM of the underlined word to fill in the blank.

Welter was an honest worker, whereas Rodriguez was _____.

- Ans
- 1. candid
 - 2. corrupt
 - 3. timid
 - 4. erupt

Question ID : 26433091845
Status : Not Answered
Chosen Option : --

Comprehension:

In the following passage, some words have been deleted. Read the passage carefully and select the most appropriate option to fill in each blank.

The automobile industry is one of the (1) _____ industries at the global level. It plays a crucial role in the development of the global economy because of the high revenues and increased customer demands. The automobile industry helps to (2) _____ economic development of the country; therefore, it is widely recognised as a major economic sector. The automobile industry consists of multiple companies (3) _____ in car manufacturing, as well as the ones involved in marketing and distribution of automobile products, such as cars, buses, vans, trucks, motorcycles, mopeds and (4) _____ bicycles. The global automobile industry incorporates several large car manufacturers' blocs that work (5) _____ at the global level.

SubQuestion No : 16

Q.16 Select the most appropriate option to fill in blank number 1.

- Ans**
- 1. shortening
 - 2. jumping
 - 3. moving
 - 4. leading

Question ID : 26433089756
Status : Not Answered
Chosen Option : --

Comprehension:

In the following passage, some words have been deleted. Read the passage carefully and select the most appropriate option to fill in each blank.

The automobile industry is one of the (1) _____ industries at the global level. It plays a crucial role in the development of the global economy because of the high revenues and increased customer demands. The automobile industry helps to (2) _____ economic development of the country; therefore, it is widely recognised as a major economic sector. The automobile industry consists of multiple companies (3) _____ in car manufacturing, as well as the ones involved in marketing and distribution of automobile products, such as cars, buses, vans, trucks, motorcycles, mopeds and (4) _____ bicycles. The global automobile industry incorporates several large car manufacturers' blocs that work (5) _____ at the global level.

SubQuestion No : 17

Q.17 Select the most appropriate option to fill in blank number 2.

- Ans**
- 1. foster
 - 2. arrest
 - 3. block
 - 4. release

Question ID : 26433089757
Status : Not Answered
Chosen Option : --

Comprehension:

In the following passage, some words have been deleted. Read the passage carefully and select the most appropriate option to fill in each blank.

The automobile industry is one of the (1) _____ industries at the global level. It plays a crucial role in the development of the global economy because of the high revenues and increased customer demands. The automobile industry helps to (2) _____ economic development of the country; therefore, it is widely recognised as a major economic sector. The automobile industry consists of multiple companies (3) _____ in car manufacturing, as well as the ones involved in marketing and distribution of automobile products, such as cars, buses, vans, trucks, motorcycles, mopeds and (4) _____ bicycles. The global automobile industry incorporates several large car manufacturers' blocs that work (5) _____ at the global level.

SubQuestion No : 18

Q.18 Select the most appropriate option to fill in blank number 3.

- Ans**
- 1. simplified
 - 2. unspecialised
 - 3. specialised
 - 4. non-simplified

Question ID : 26433089758
Status : Not Answered
Chosen Option : --

Comprehension:

In the following passage, some words have been deleted. Read the passage carefully and select the most appropriate option to fill in each blank.

The automobile industry is one of the (1) _____ industries at the global level. It plays a crucial role in the development of the global economy because of the high revenues and increased customer demands. The automobile industry helps to (2) _____ economic development of the country; therefore, it is widely recognised as a major economic sector. The automobile industry consists of multiple companies (3) _____ in car manufacturing, as well as the ones involved in marketing and distribution of automobile products, such as cars, buses, vans, trucks, motorcycles, mopeds and (4) _____ bicycles. The global automobile industry incorporates several large car manufacturers' blocs that work (5) _____ at the global level.

SubQuestion No : 19

Q.19 Select the most appropriate option to fill in blank number 4.

- Ans**
- 1. motorised
 - 2. fuel-based
 - 3. non-fuel
 - 4. non-motorised

Question ID : 26433089759
Status : Not Answered
Chosen Option : --

Comprehension:

In the following passage, some words have been deleted. Read the passage carefully and select the most appropriate option to fill in each blank.

The automobile industry is one of the (1) _____ industries at the global level. It plays a crucial role in the development of the global economy because of the high revenues and increased customer demands. The automobile industry helps to (2) _____ economic development of the country; therefore, it is widely recognised as a major economic sector. The automobile industry consists of multiple companies (3) _____ in car manufacturing, as well as the ones involved in marketing and distribution of automobile products, such as cars, buses, vans, trucks, motorcycles, mopeds and (4) _____ bicycles. The global automobile industry incorporates several large car manufacturers' blocs that work (5) _____ at the global level.

SubQuestion No : 20

Q.20 Select the most appropriate option to fill in blank number 5.

- Ans
- 1. hurriedly
 - 2. smoothly
 - 3. collaboratively
 - 4. single-handedly

Question ID : 26433089760
Status : Not Answered
Chosen Option : --

Section : Part-D-Hindi

Q.1 'सोने को स्वर्ण कहो या _____ उसकी कीमत कम नहीं होती।' 'सोने' के पर्याय से उपरोक्त वाक्य में रिक्त स्थान की पूर्ति कीजिए।

- Ans
- 1. अभ्रक
 - 2. नीलम
 - 3. हीरक
 - 4. कंचन

Question ID : 26433084984
Status : Answered
Chosen Option : 4

Q.2 निम्नलिखित में से कौन सा क्रिया से बना एक विशेषण शब्द है?

- Ans
- 1. लड़ाकू
 - 2. भागना
 - 3. गाना
 - 4. दौड़ना

Question ID : 26433085055
Status : Answered
Chosen Option : 4

Q.3 'फूल की रज' – वाक्य खंड के लिए उपयुक्त शब्द क्या होगा?

- Ans
- 1. पार्थिव
 - 2. पराग
 - 3. प्रदोष
 - 4. पतित

Question ID : 26433063058

Status : Answered

Chosen Option : 1

Q.4 'इन लोगों ने क्या किया कुछ?' इस वाक्य में कौन सा शब्द अनुपयुक्त है?

- Ans
- 1. कुछ
 - 2. इन
 - 3. क्या
 - 4. लोगों

Question ID : 26433091305

Status : Answered

Chosen Option : 1

Q.5 जीवन में उत्साह बना रहना चाहिए।

उपरोक्त वाक्य में रेखांकित शब्द के सही विलोम शब्द का चयन निम्न विकल्पों में से कीजिए।

- Ans
- 1. विस्साह
 - 2. हतुत्साह
 - 3. निरुत्साह
 - 4. प्रत्साह

Question ID : 26433079741

Status : Not Answered

Chosen Option : --

Q.6 'उसने माना पर तुमने नहीं माने।' इस वाक्य में कौन सा शब्द अशुद्ध है?

- Ans
- 1. माना
 - 2. नहीं
 - 3. माने
 - 4. पर

Question ID : 26433091309

Status : Answered

Chosen Option : 3

Q.7 निम्न वाक्यांश के लिए एक सही शब्द का चयन विकल्पों में से कीजिए।
परलोक से संबंध रखने वाला

- Ans
- 1. पुरलौकिक
 - 2. समलौकिक
 - 3. पारलौकिक
 - 4. पारलोकिक

Question ID : 26433070095
Status : Answered
Chosen Option : 3

Q.8 'आस्तीन का साँप' मुहावरे का सही अर्थ है -

- Ans
- 1. किसी के साथ अन्याय करना
 - 2. साँप काट लेना
 - 3. साँप देख लेना
 - 4. कपटी मित्र होना

Question ID : 26433065922
Status : Answered
Chosen Option : 1

Q.9 हमें पाप से बचना चाहिए।
उपरोक्त वाक्य में रेखांकित शब्द के सही विलोम शब्द का चयन निम्न विकल्पों में से कीजिए।

- Ans
- 1. पुण्य
 - 2. कुपाप
 - 3. अपाप
 - 4. दान

Question ID : 26433079642
Status : Answered
Chosen Option : 1

Q.10 निम्नलिखित वाक्य में रेखांकित खंड के स्थान पर प्रयुक्त होने वाले सबसे उपयुक्त विकल्प का चयन कीजिए।
लड़के ने पत्र लिखी।

- Ans
- 1. लिखता
 - 2. लिखाई
 - 3. लिखा
 - 4. लिख

Question ID : 26433079565
Status : Answered
Chosen Option : 3

Q.11 निम्न वाक्यांश के लिए सार्थक शब्द/सही विकल्प का चयन कीजिए।
जिसे ईश्वर में विश्वास न हो

- Ans 1. नास्तिक
 2. नमाज़ी
 3. नश्वर
 4. नकारा

Question ID : 26433066926
Status : Answered
Chosen Option : 1

Q.12 विकल्पों में से 'अलि' का पर्यायवाची चुनकर निम्न वाक्य पूर्ण कीजिए।
फूल पर _____ गुनगुनाता है।

- Ans 1. भृंग
 2. काक
 3. वास
 4. अब्ज

Question ID : 26433063087
Status : Answered
Chosen Option : 1

Q.13 निम्नलिखित विकल्पों में से 'प्रारम्भ से लेकर अंत तक' वाक्यांश के लिए एक सार्थक शब्द क्या होगा ?

- Ans 1. निरक्षर
 2. आद्योपान्त
 3. अपरिचय
 4. परिचय

Question ID : 26433062469
Status : Answered
Chosen Option : 2

Q.14 निम्न में से कौन सा विकल्प स्थानवाचक क्रिया-विशेषण का उदाहरण नहीं है?

- Ans 1. बाएं
 2. तेज
 3. ऊपर
 4. भीतर

Question ID : 26433079229
Status : Answered
Chosen Option : 2

Q.15 निम्नलिखित मुहावरे के उचित अर्थ का चयन कीजिए-
पट्टी पढ़ाना

- Ans
- 1. पढ़ाई करवाना
 - 2. बुरी राय देना
 - 3. बहुत कुछ बताना
 - 4. याद करवाना

Question ID : 26433065889

Status : Answered

Chosen Option : 2

Comprehension:

नीचे पूछे गए प्रश्न संख्या 1 से 5 के उत्तर निम्न गद्यांश के आधार पर दीजिए।

सौर परिवार में पृथ्वी पर ही जीवन का अस्तित्व है। सभी सजीवों (पौधे और जंतु) में उपापचयी क्रियाएँ (पोषण, श्वसन एवं उत्सर्जन), आकार में 1. _____, शरीर के विभिन्न अंगों में समन्वय, कार्य करने की क्षमता तथा उद्दीपन के प्रति संवेदना होती है। वृद्धि की विशेषावधि के पश्चात सभी पौधे तथा जंतु जनन द्वारा अपने जैसी ही संतति उत्पन्न करते हैं। सभी पौधे तथा जंतुओं की निश्चित 2. _____ होती है, परंतु कोई भी दो पौधे या जंतु एक समान नहीं होते हैं। ऐसी विभिन्नताएँ 3. _____ के समय उत्पन्न होती हैं तथा जैविक विकास के लिए मुख्य 4. _____ बनती हैं। सजीव तंत्र के विलक्षण संगठन के कारण ही विभिन्न जैविक क्रियाएँ संभव हैं। संगठन के विभिन्न स्तर हैं आणविक, कोशिकीय, ऊतकीय, अंगतंत्र, व्यष्टि, समष्टि (जनसंख्या), समुदाय, पारिस्थितिक तंत्र एवं जीव मंडल। संगठन के इन नौ स्तरों के अंतर्गत 5. _____ के गुण केवल कोशिकीय स्तर पर दिखाई देते हैं तथा जीवमंडल से आगे नहीं जाते। कोशिकाएँ विभिन्न आकार और आकृति की हो सकती हैं। कुछ जीव एकाकोशिक होते हैं, जबकि कुछ बहुकोशिक होते हैं। प्रत्येक कोशिका का एक निश्चित आकार होता है तथा उसमें विभिन्न कार्यों के लिए अनेक कोशिकांग होते हैं। इस प्रकार कोशिका किसी भी जीव की इकाई है और सभी कोशिकाएँ पहले से निर्मित कोशिका से विकसित होती हैं।

SubQuestion No : 16

Q.16 रिक्त स्थान 1 के लिए सर्वाधिक उपयुक्त शब्द इनमें से क्या होगा?

- Ans
- 1. ऋण
 - 2. रत्न
 - 3. वृद्धि
 - 4. ब्याज

Question ID : 26433070121

Status : Answered

Chosen Option : 3

Comprehension:

नीचे पूछे गए प्रश्न संख्या 1 से 5 के उत्तर निम्न गद्यांश के आधार पर दीजिए।

सौर परिवार में पृथ्वी पर ही जीवन का अस्तित्व है। सभी सजीवों (पौधे और जंतु) में उपापचयी क्रियाएँ (पोषण, श्वसन एवं उत्सर्जन), आकार में 1. _____, शरीर के विभिन्न अंगों में समन्वय, कार्य करने की क्षमता तथा उद्दीपन के प्रति संवेदना होती है। वृद्धि की विशेषावधि के पश्चात सभी पौधे तथा जंतु जनन द्वारा अपने जैसी ही संतति उत्पन्न करते हैं। सभी पौधे तथा जंतुओं की निश्चित 2. _____ होती है, परंतु कोई भी दो पौधे या जंतु एक समान नहीं होते हैं। ऐसी विभिन्नताएँ 3. _____ के समय उत्पन्न होती हैं तथा जैविक विकास के लिए मुख्य 4. _____ बनती हैं। सजीव तंत्र के विलक्षण संगठन के कारण ही विभिन्न जैविक क्रियाएँ संभव हैं। संगठन के विभिन्न स्तर हैं आणविक, कोशिकीय, ऊतकीय, अंगतंत्र, व्यष्टि, समष्टि (जनसंख्या), समुदाय, पारिस्थितिक तंत्र एवं जीव मंडल। संगठन के इन नौ स्तरों के अंतर्गत 5. _____ के गुण केवल कोशिकीय स्तर पर दिखाई देते हैं तथा जीवमंडल से आगे नहीं जाते। कोशिकाएँ विभिन्न आकार और आकृति की हो सकती हैं। कुछ जीव एककोशिक होते हैं, जबकि कुछ बहुकोशिक होते हैं। प्रत्येक कोशिका का एक निश्चित आकार होता है तथा उसमें विभिन्न कार्यों के लिए अनेक कोशिकांग होते हैं। इस प्रकार कोशिका किसी भी जीव की इकाई है और सभी कोशिकाएँ पहले से निर्मित कोशिका से विकसित होती हैं।

SubQuestion No : 17

Q.17 रिक्त स्थान 2 के लिए सर्वाधिक उपयुक्त शब्द इनमें से क्या होगा?

- Ans
- 1. आकार
 - 2. विन्यास
 - 3. आकृति
 - 4. विकार

Question ID : 26433070122

Status : Answered

Chosen Option : 3

Comprehension:

नीचे पूछे गए प्रश्न संख्या 1 से 5 के उत्तर निम्न गद्यांश के आधार पर दीजिए।

सौर परिवार में पृथ्वी पर ही जीवन का अस्तित्व है। सभी सजीवों (पौधे और जंतु) में उपापचयी क्रियाएँ (पोषण, श्वसन एवं उत्सर्जन), आकार में 1. _____, शरीर के विभिन्न अंगों में समन्वय, कार्य करने की क्षमता तथा उद्दीपन के प्रति संवेदना होती है। वृद्धि की विशेषावधि के पश्चात सभी पौधे तथा जंतु जनन द्वारा अपने जैसी ही संतति उत्पन्न करते हैं। सभी पौधे तथा जंतुओं की निश्चित 2. _____ होती है, परंतु कोई भी दो पौधे या जंतु एक समान नहीं होते हैं। ऐसी विभिन्नताएँ 3. _____ के समय उत्पन्न होती हैं तथा जैविक विकास के लिए मुख्य 4. _____ बनती हैं। सजीव तंत्र के विलक्षण संगठन के कारण ही विभिन्न जैविक क्रियाएँ संभव हैं। संगठन के विभिन्न स्तर हैं आणविक, कोशिकीय, ऊतकीय, अंगतंत्र, व्यष्टि, समष्टि (जनसंख्या), समुदाय, पारिस्थितिक तंत्र एवं जीव मंडल। संगठन के इन नौ स्तरों के अंतर्गत 5. _____ के गुण केवल कोशिकीय स्तर पर दिखाई देते हैं तथा जीवमंडल से आगे नहीं जाते। कोशिकाएँ विभिन्न आकार और आकृति की हो सकती हैं। कुछ जीव एककोशिक होते हैं, जबकि कुछ बहुकोशिक होते हैं। प्रत्येक कोशिका का एक निश्चित आकार होता है तथा उसमें विभिन्न कार्यों के लिए अनेक कोशिकांग होते हैं। इस प्रकार कोशिका किसी भी जीव की इकाई है और सभी कोशिकाएँ पहले से निर्मित कोशिका से विकसित होती हैं।

SubQuestion No : 18

Q.18 रिक्त स्थान 3 के लिए सर्वाधिक उपयुक्त शब्द इनमें से क्या होगा?

- Ans
- 1. जननी
 - 2. मृत्यु
 - 3. प्रवास
 - 4. जनन

Question ID : 26433070123

Status : Answered

Chosen Option : 1

Comprehension:

नीचे पूछे गए प्रश्न संख्या 1 से 5 के उत्तर निम्न गद्यांश के आधार पर दीजिए।

सौर परिवार में पृथ्वी पर ही जीवन का अस्तित्व है। सभी सजीवों (पौधे और जंतु) में उपापचयी क्रियाएँ (पोषण, श्वसन एवं उत्सर्जन), आकार में 1. _____, शरीर के विभिन्न अंगों में समन्वय, कार्य करने की क्षमता तथा उद्दीपन के प्रति संवेदना होती है। वृद्धि की विशेषावधि के पश्चात सभी पौधे तथा जंतु जनन द्वारा अपने जैसी ही संतति उत्पन्न करते हैं। सभी पौधे तथा जंतुओं की निश्चित 2. _____ होती है, परंतु कोई भी दो पौधे या जंतु एक समान नहीं होते हैं। ऐसी विभिन्नताएँ 3. _____ के समय उत्पन्न होती हैं तथा जैविक विकास के लिए मुख्य 4. _____ बनती हैं। सजीव तंत्र के विलक्षण संगठन के कारण ही विभिन्न जैविक क्रियाएँ संभव हैं। संगठन के विभिन्न स्तर हैं आणविक, कोशिकीय, ऊतकीय, अंगतंत्र, व्यष्टि, समष्टि (जनसंख्या), समुदाय, पारिस्थितिक तंत्र एवं जीव मंडल। संगठन के इन नौ स्तरों के अंतर्गत 5. _____ के गुण केवल कोशिकीय स्तर पर दिखाई देते हैं तथा जीवमंडल से आगे नहीं जाते। कोशिकाएँ विभिन्न आकार और आकृति की हो सकती हैं। कुछ जीव एककोशिक होते हैं, जबकि कुछ बहुकोशिक होते हैं। प्रत्येक कोशिका का एक निश्चित आकार होता है तथा उसमें विभिन्न कार्यों के लिए अनेक कोशिकांग होते हैं। इस प्रकार कोशिका किसी भी जीव की इकाई है और सभी कोशिकाएँ पहले से निर्मित कोशिका से विकसित होती हैं।

SubQuestion No : 19

Q.19 रिक्त स्थान 4 के लिए सर्वाधिक उपयुक्त शब्द इनमें से क्या होगा?

- Ans 1. आधार
 2. प्रकार
 3. रेखा
 4. आकार

Question ID : 26433070124

Status : Answered

Chosen Option : 4

Comprehension:

नीचे पूछे गए प्रश्न संख्या 1 से 5 के उत्तर निम्न गद्यांश के आधार पर दीजिए।

सौर परिवार में पृथ्वी पर ही जीवन का अस्तित्व है। सभी सजीवों (पौधे और जंतु) में उपापचयी क्रियाएँ (पोषण, श्वसन एवं उत्सर्जन), आकार में 1. _____, शरीर के विभिन्न अंगों में समन्वय, कार्य करने की क्षमता तथा उद्दीपन के प्रति संवेदना होती है। वृद्धि की विशेषावधि के पश्चात सभी पौधे तथा जंतु जनन द्वारा अपने जैसी ही संतति उत्पन्न करते हैं। सभी पौधे तथा जंतुओं की निश्चित 2. _____ होती है, परंतु कोई भी दो पौधे या जंतु एक समान नहीं होते हैं। ऐसी विभिन्नताएँ 3. _____ के समय उत्पन्न होती हैं तथा जैविक विकास के लिए मुख्य 4. _____ बनती हैं। सजीव तंत्र के विलक्षण संगठन के कारण ही विभिन्न जैविक क्रियाएँ संभव हैं। संगठन के विभिन्न स्तर हैं आणविक, कोशिकीय, ऊतकीय, अंगतंत्र, व्यष्टि, समष्टि (जनसंख्या), समुदाय, पारिस्थितिक तंत्र एवं जीव मंडल। संगठन के इन नौ स्तरों के अंतर्गत 5. _____ के गुण केवल कोशिकीय स्तर पर दिखाई देते हैं तथा जीवमंडल से आगे नहीं जाते। कोशिकाएँ विभिन्न आकार और आकृति की हो सकती हैं। कुछ जीव एककोशिक होते हैं, जबकि कुछ बहुकोशिक होते हैं। प्रत्येक कोशिका का एक निश्चित आकार होता है तथा उसमें विभिन्न कार्यों के लिए अनेक कोशिकांग होते हैं। इस प्रकार कोशिका किसी भी जीव की इकाई है और सभी कोशिकाएँ पहले से निर्मित कोशिका से विकसित होती हैं।

SubQuestion No : 20

Q.20 रिक्त स्थान 5 के लिए सर्वाधिक उपयुक्त शब्द इनमें से क्या होगा?

- Ans 1. विकास
 2. जीव
 3. मरण
 4. जीवन

Question ID : 26433070125

Status : Answered

Chosen Option : 2

Constable GD in CAPFs SSF Rifleman GD in Assam Rifles and Sepoy in NCB Examination 2022

Roll Number	KD Job Updates
Candidate Name	KD Job Updates
Venue Name	iON Digital Zone iDZ 2 Sector 62
Exam Date	31/01/2023
Exam Time	2:30 PM - 3:30 PM
Subject	Constable GD Examination 2022

Section : Part-A-General Intelligence and Reasoning

Q.1 उस विकल्प का चयन कीजिए जो पांचवें अक्षर-समूह से उसी प्रकार संबंधित है जिस प्रकार दूसरा अक्षर-समूह पहले अक्षर-समूह से संबंधित है और चौथा अक्षर-समूह तीसरे अक्षर-समूह से संबंधित है।
PENSION : NENSIOP :: QUALITY : YUALITQ :: PRODUCT : ?

- Ans
- 1. DUCTPRO
 - 2. TCUDORP
 - 3. ORPTCUD
 - 4. TRODUCP

Question ID : 26433069635

Status : Answered

Chosen Option : 4

Q.2 यदि '+' का अर्थ है '-', '-' का अर्थ है '+', '-' का अर्थ है 'x', और 'x' का अर्थ है '+', तो निम्नलिखित में से कौन-सा, अभिव्यक्ति का मान होगा?
 $81 \times 9 + 21 - 7 \div 147$

- Ans
- 1. 294
 - 2. 6
 - 3. 303
 - 4. 9

Question ID : 264330114184

Status : Answered

Chosen Option : 4

Q.3 दर्पण को नीचे दिए गए चित्र के अनुसार MN पर रखे जाने पर दी गई आकृति

का दर्पण में निर्मित सही प्रतिबिंब चयनित कीजिए।

S n M w D N A

M _____ N

- Ans
- 1. A N D W M n S
 - 2. S U M W D N A
 - 3. A N D W M n S
 - 4. S U M W D N A

Question ID : 26433080806

Status : Answered

Chosen Option : 1

Q.4 किस विकल्प में निम्नलिखित शब्दों का वह क्रम दिया गया है, जिस क्रम में वे अंग्रेजी शब्दकोश में आते हैं।

- 1 Glass
- 2 Glycerine
- 3 Glare
- 4 Glow
- 5 Glamorous

- Ans
- 1. 3,1,4,5,2
 - 2. 5,3,1,4,2
 - 3. 3,5,4,1,2
 - 4. 5,3,1,2,4

Question ID : 26433069272

Status : Answered

Chosen Option : 2

Q.5 सात मित्र - A, B, C, D, E, F और G, एक वृत्त के परितः केंद्र की ओर मुख करके बैठे हैं। D, A के दाईं ओर तीसरे स्थान पर बैठा है, और G के बाईं ओर ठीक बगल में बैठा है। G और E के बीच में केवल B बैठा है। C, F के बाईं ओर ठीक बगल में बैठा है। G के बाईं ओर दूसरे स्थान पर कौन बैठा है?

- Ans
- 1. E
 - 2. A
 - 3. F
 - 4. C

Question ID : 26433079054

Status : Answered

Chosen Option : 3

Q.6 एक निश्चित भाषा में RAT को 3 और BOTTLE को 6 के रूप में कूटबद्ध किया जाता है। इसी भाषा में MOBILE को किस प्रकार कूटबद्ध किया जाएगा?

- Ans
- 1. 12
 - 2. 6
 - 3. 18
 - 4. 5

Question ID : 26433074591
Status : Answered
Chosen Option : 2

Q.7 उस विकल्प का चयन कीजिए जो पांचवें अक्षर-समूह से उसी प्रकार संबंधित है जिस प्रकार दूसरा अक्षर-समूह पहले अक्षर-समूह से संबंधित है और चौथा अक्षर-समूह तीसरे अक्षर-समूह से संबंधित है।
NEAR: KJEG :: SAME: FFQT :: EARN: ?

- Ans
- 1. TFKV
 - 2. VZIM
 - 3. JXGR
 - 4. JFWS

Question ID : 26433057496
Status : Answered
Chosen Option : 1

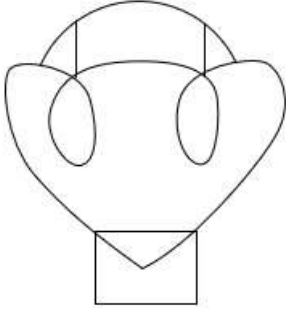
Q.8 निम्नलिखित में से कौन-सी संख्या दी गई श्रृंखला में प्रश्न-चिह्न (?) के स्थान पर आएगी?
12, 24, 48, 84, 132, ?

- Ans
- 1. 176
 - 2. 144
 - 3. 192
 - 4. 162

Question ID : 26433069050
Status : Answered
Chosen Option : 3

Q.9 वह विकल्प चित्र चुनिए, जो प्रस्तुत चित्र में अंतर्निहित है। (घुमाना अनुमन्य नहीं

क)



Ans

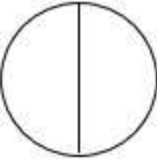
✓ 1.




✗ 2.



✗ 3.



✗ 4.



Question ID : 26433069340

Status : Answered

Chosen Option : 1

Q.10 निम्नलिखित में से कौन-सी संख्या दी गई श्रंखला में प्रश्न-चिह्न (?) के स्थान पर आएगी?
13, 4, 17, 8, 21, 16, 25 ?

Ans ✗ 1. 39

✗ 2. 36

✗ 3. 29

✓ 4. 32

Question ID : 26433067881

Status : Answered

Chosen Option : 4

Q.11 निम्नलिखित में से कौन-सा पद दी गई श्रृंखला में प्रश्न-चिह्न (?) के स्थान पर आएगा?
WKRF, VLQG, TNOI, ? , MUHP

- Ans 1. QQLL
 2. QPLM
 3. QLLQ
 4. PQML

Question ID : 26433068306

Status : Answered

Chosen Option : 1

Q.12 उस समुच्चय का चयन करें, जिसमें संख्याएँ उसी प्रकार संबंधित हैं, जिस प्रकार निम्नलिखित समुच्चयों की संख्याएँ हैं।
(नोट: संख्याओं को उसके घटक अंकों में विभाजित किए बिना, पूर्ण संख्याओं पर ही गणितीय संक्रियाएँ की जानी चाहिए। जैसे 13 - मान लीजिए 13 पर गणितीय संक्रियाएँ जैसे कि 13 में जोड़ना/घटाना/गुणा करना आदि किया जा सकता है। 13 को 1 और 3 में तोड़कर और फिर 1 और 3 पर गणितीय संक्रियाएँ करने की अनुमति नहीं है।)
(45, 24, 231)
(65, 47, 198)

- Ans 1. (70, 35, 285)
 2. (75, 45, 390)
 3. (35, 12, 296)
 4. (46, 13, 363)

Question ID : 26433076489

Status : Answered

Chosen Option : 4

Q.13 निम्नलिखित में से कौन-सा अक्षर नीचे दी गई अक्षर श्रृंखला में प्रश्न-चिह्न (?) के स्थान पर आकर श्रृंखला को पूर्ण करेगा?
B, C, G, P, F, ?

- Ans 1. C
 2. D
 3. F
 4. E

Question ID : 26433067286

Status : Answered

Chosen Option : 4

Q.14 A @ B का अर्थ है 'A, B की बहन है'।
A & B का अर्थ है 'A, B का भाई है'।
A # B का अर्थ है 'A, B की पत्नी है'।
A ^ B का अर्थ है 'A, B की माता है'।
A + B का अर्थ है 'A, B के पिता हैं'।
यदि U ^ Q ^ R @ N & C ^ I @ J @ A है, तो निम्नलिखित में से कौन-सा कथन सही नहीं है?

- Ans
- 1. J, C की पुत्री है।
 - 2. C, Q की पुत्री है।
 - 3. Q, I के नाना हैं।
 - 4. Q, N की माता है।

Question ID : 26433068949

Status : Answered

Chosen Option : 3

KD Job Updates

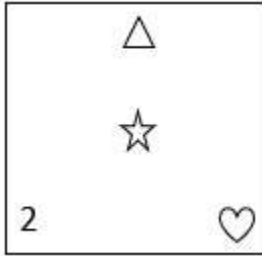
Q.15 यदि श्रृंखला जारी रखनी है तो कौन-सी आकृति प्रश्न चिह्न (?) के स्थान पर

आएगी?

△	△	♡	♡	
☆	2	2	☆	?
2	♡	☆	△	2

Ans

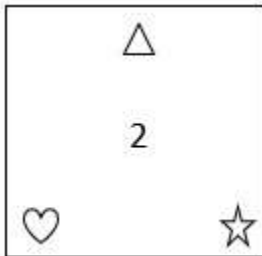
✓ 1.



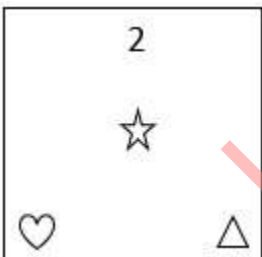
✗ 2.



✗ 3.



✗ 4.



Question ID : 26433076623

Status : Answered

Chosen Option : 3

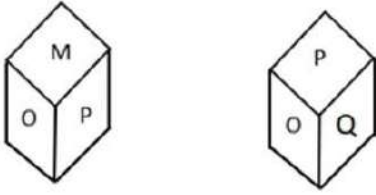
Q.16 एक निश्चित कूट भाषा में, TIREED को 56 के रूप में कूटबद्ध किया जाता और FRESH को 56 के रूप में कूटबद्ध किया जाता है। उसी भाषा में HEAVEN को किस प्रकार कूटबद्ध किया जाएगा?

- Ans 1. 52
 2. 55
 3. 56
 4. 54

Question ID : 26433067997
Status : Answered
Chosen Option : 2

Q.17 एक ही पासे की दो अलग-अलग स्थितियों को दर्शाया गया है जिस पर 'M' से 'R' तक के वर्णाक्षर बने हैं।

'M' दर्शाने वाले फलक के विपरीत फलक पर स्थित वर्णाक्षर ज्ञात कीजिए।



- Ans 1. P
 2. Q
 3. N
 4. R

Question ID : 26433085513
Status : Answered
Chosen Option : 2

Q.18 नीचे दिए गए समीकरण को सही बनाने के लिए किन दो चिन्हों को गणितीय रूप से परस्पर बदलना चाहिए?

$$78 + 3 \div 26 - 8 \times 24 = 25$$

- Ans 1. \times और $+$
 2. \div और $+$
 3. \div और \times
 4. $+$ और $-$

Question ID : 264330117497
Status : Answered
Chosen Option : 1

Q.19 छः विद्यार्थी एक वृत्ताकार मेज के परितः केंद्र की ओर मुख करके बैठे हैं। राज, लियाम और मारिया के ठीक बगल में है। सिद्धार्थ, मारिया के दाईं ओर दूसरे स्थान पर बैठा है। तान्या, लियाम के बाईं ओर तीसरे स्थान पर बैठी है। नाथन, लियाम के बाईं ओर ठीक बगल में बैठा है। सिद्धार्थ और मारिया के ठीक बगल में कौन बैठा/बैठी है?

- Ans
- 1. लियाम
 - 2. राज
 - 3. नाथन
 - 4. तान्या

Question ID : 26433074605

Status : Answered

Chosen Option : 4

Q.20 इस प्रश्न में तीन कथन दिए गए हैं, जिसके बाद दो निष्कर्ष I और II दिए गए हैं। कथनों को सत्य मानते हुए, भले ही वे सर्वज्ञात तथ्यों से भिन्न प्रतीत होते हों, निर्णय कीजिए कि कौन-सा/से निष्कर्ष कथनों का तार्किक रूप से अनुसरण करता है/अनुसरण करते हैं।

कथन:

कुछ घड़ियाँ दीवारघड़ियाँ (क्लॉक) हैं।

सभी दीवारघड़ियाँ काली हैं।

सभी काली बड़ी हैं।

निष्कर्ष:

I. कुछ घड़ियाँ बड़ी हैं।

II. कुछ घड़ियाँ काली हैं।

- Ans
- 1. निष्कर्ष I और II दोनों अनुसरण करते हैं।
 - 2. केवल निष्कर्ष II अनुसरण करता है।
 - 3. न तो निष्कर्ष I और न ही II अनुसरण करता है।
 - 4. केवल निष्कर्ष I अनुसरण करता है।

Question ID : 26433070395

Status : Answered

Chosen Option : 1

Section : Part-B-General Knowledge and General awareness

Q.1 शेवरोय पहाड़ियाँ और जावड़ी पहाड़ियाँ _____ स्थित हैं।

- Ans
- 1. पश्चिमी घाट के दक्षिण-पूर्व में
 - 2. पूर्वी घाट के दक्षिण-पूर्व में
 - 3. पूर्वी घाट के दक्षिण पश्चिम में
 - 4. पश्चिमी घाट के उत्तर पूर्व में

Question ID : 264330115986

Status : Not Answered

Chosen Option : --

Q.2 The mascot of 2022 National games of India is based on which animal?

- Ans
- 1. Cow
 - 2. Lion
 - 3. Peacock
 - 4. Cheetah

Question ID : 264330115952
Status : Answered
Chosen Option : 2

Q.3 विश्व में पहली बार, पंचवर्षीय योजना (1928-32), सोवियत संघ में _____ द्वारा लागू की गई थी।

- Ans
- 1. एडम स्मिथ
 - 2. कार्ल मार्क्स
 - 3. स्टीव जॉब्स
 - 4. जोसेफ स्टालिन

Question ID : 264330115369
Status : Not Answered
Chosen Option : --

Q.4 पादप कोशिका में, _____ प्राथमिक रूप से अंगक हैं जिसमें स्टार्च, तेल तथा प्रोटीन जैसे पदार्थ संचित होते हैं।

- Ans
- 1. क्रोमोप्लास्ट
 - 2. रसधानियाँ
 - 3. ल्यूकोप्लास्ट
 - 4. माइटोकॉन्ड्रिया

Question ID : 264330115212
Status : Answered
Chosen Option : 1

Q.5 भारतीय संविधान का कौन-सा अनुच्छेद भारत के उपराष्ट्रपति के पद को अनिवार्य करता है?

- Ans
- 1. अनुच्छेद 49
 - 2. अनुच्छेद 42
 - 3. अनुच्छेद 53
 - 4. अनुच्छेद 63

Question ID : 26433054539
Status : Answered
Chosen Option : 4

Q.6 निम्नलिखित में से किस नदी का नाम ऋग्वेद में केवल एक बार आया है?

- Ans
- 1. गंगा
 - 2. सिंधु
 - 3. झेलम
 - 4. सरस्वती

Question ID : 26433089850
Status : Not Answered
Chosen Option : --

Q.7 अरंडी के बीजों (castor seeds) में क्या भिन्न है?

- Ans
- 1. यह केवल जायद फसल है
 - 2. यह केवल रबी फसल है
 - 3. यह रबी और खरीफ, दोनों फसल है
 - 4. यह न तो रबी और न ही खरीफ फसल है

Question ID : 264330115531
Status : Answered
Chosen Option : 1

Q.8 जागोई और चोलोम निम्नलिखित में से किस शास्त्रीय नृत्य शैली के दो प्रमुख भाग हैं?

- Ans
- 1. कथक
 - 2. सत्रीया
 - 3. मणिपुरी
 - 4. ओडिसी

Question ID : 26433071449
Status : Answered
Chosen Option : 3

Q.9 निम्नलिखित में से कौन अप्रैल 2022 में भारत में बोचहां, बिहार से विधान सभा के सदस्य बने?

- Ans
- 1. बेबी कुमारी
 - 2. रामवृक्ष सदा
 - 3. अमर कुमार पासवान
 - 4. तेज प्रताप यादव

Question ID : 264330114903
Status : Answered
Chosen Option : 3

Q.10 स्वच्छ भारत मिशन वर्ष _____ में शुरू किया गया था।

- Ans
- 1. 2013
 - 2. 2012
 - 3. 2014
 - 4. 2016

Question ID : 264330116175

Status : Answered

Chosen Option : 3

Q.11 12वीं पंचवर्षीय योजना का लक्ष्य _____ की वार्षिक औसत आर्थिक विकास दर हासिल करना था।

- Ans
- 1. 8.2 प्रतिशत
 - 2. 6.2 प्रतिशत
 - 3. 7.1 प्रतिशत
 - 4. 9.3 प्रतिशत

Question ID : 264330116128

Status : Answered

Chosen Option : 3

Q.12 प्रथम भारतीय आदिवासी राष्ट्रपति का क्या नाम है?

- Ans
- 1. विश्वेश्वर टुडू
 - 2. सुदर्शन भगत
 - 3. जसवंतसिंह भाभोर
 - 4. द्रौपदी मुर्मू

Question ID : 264330114987

Status : Answered

Chosen Option : 4

Q.13 निम्नलिखित में से किसे फरवरी 2022 में कालिदास सम्मान प्रदान किया गया है?

- Ans
- 1. जिया मोहिउद्दीन डागर
 - 2. एम वेंकटेशकुमार
 - 3. कुमार गंधर्व
 - 4. भूपेन खाखर

Question ID : 264330115829

Status : Answered

Chosen Option : 1

Q.14 1919 में निम्नलिखित में से कौन-सी प्रमुख घटना घटी थी?

- Ans
- 1. बंगाल विभाजन
 - 2. जलियांवाला बाग हत्याकांड
 - 3. चंपारण आंदोलन
 - 4. असहयोग आंदोलन

Question ID : 26433089881
Status : Answered
Chosen Option : 2

Q.15 ध्वनि तरंगों जिनकी आवृत्ति _____ हर्ट्ज से कम होती है, उन्हें अवश्रव्य तरंगों कहा जाता है।

- Ans
- 1. 5
 - 2. 15
 - 3. 10
 - 4. 20

Question ID : 264330115151
Status : Answered
Chosen Option : 4

Q.16 73वें और 74वें संशोधन के अनुसार भारत में _____-स्तरीय शासन प्रणाली है।

- Ans
- 1. एक
 - 2. तीन
 - 3. चार
 - 4. दो

Question ID : 264330115619
Status : Answered
Chosen Option : 2

Q.17 The _____ refers to the excess of government's revenue expenditure over revenue receipts.

- Ans
- 1. capital deficit
 - 2. revenue surplus
 - 3. revenue deficit
 - 4. fiscal deficit

Question ID : 264330115284
Status : Not Answered
Chosen Option : --

Q.18 2011 की जनगणना के अनुसार किस राज्य में लिंगानुपात सबसे अधिक है?

- Ans
- 1. ओडिशा
 - 2. आंध्र प्रदेश
 - 3. केरल
 - 4. तमिलनाडु

Question ID : 264330116038

Status : Answered

Chosen Option : 3

Q.19 सोंगक्रान एक बौद्ध त्यौहार है। यह त्यौहार _____ के महीने में कई दिनों तक मनाया जाता है।

- Ans
- 1. अप्रैल
 - 2. मार्च
 - 3. जून
 - 4. मई

Question ID : 264330115089

Status : Not Answered

Chosen Option : --

Q.20 प्रशिक्षकों (coaches) के लिए द्रोणाचार्य पुरस्कार किस वर्ष से शुरू किया गया था?

- Ans
- 1. 1984
 - 2. 1985
 - 3. 1987
 - 4. 1982

Question ID : 264330116257

Status : Not Answered

Chosen Option : --

Section : Part-C-Elementary Mathematics

Q.1 2 टेबल का मूल्य 5 कुर्सियों के मूल्य के बराबर है। यदि एक कुर्सी का मूल्य Rs.500 है, तो 6 टेबल और 9 कुर्सियों का औसत मूल्य क्या है?

- Ans
- 1. Rs.750
 - 2. Rs.850
 - 3. Rs.900
 - 4. Rs.800

Question ID : 264330116691

Status : Answered

Chosen Option : 4

Q.2 90 m लंबे और 42 m चौड़े एक आयताकार मैदान के केंद्र में दो सड़कें एक चौराहे का निर्माण करती हैं। लंबाई के समानांतर वाली सड़क 7 m चौड़ी है और दूसरी सड़क 3 m चौड़ी है, दोनों सड़कें एक दूसरे के लंबवत हैं। सड़कों पर Rs.25 प्रति m^2 की दर से ईंटें बिछाने की लागत कितनी होगी?

- Ans
- 1. Rs.18,575
 - 2. Rs.18,308
 - 3. Rs.16,375
 - 4. Rs.18,375

Question ID : 26433083057

Status : Answered

Chosen Option : 4

Q.3 30 प्रतिशत, 15 प्रतिशत और 5 प्रतिशत की क्रमिक छूटों के समकक्ष एकल छूट है:

- Ans
- 1. 43.475 प्रतिशत
 - 2. 48.80 प्रतिशत
 - 3. 59.50 प्रतिशत
 - 4. 56.525 प्रतिशत

Question ID : 264330116744

Status : Answered

Chosen Option : 4

Q.4 तीन प्रकार की दवाएं हैं, जिनकी समान मात्रा में एल्कोहल का पानी से अनुपात क्रमशः 2 : 5, 5 : 9 और 8 : 13 है। तीनों दवाओं को समान मात्रा में मिलाया जाता है। मिलाने के बाद एल्कोहल का पानी से अनुपात ज्ञात करें।

- Ans
- 1. 12 : 19
 - 2. 43 : 83
 - 3. 34 : 38
 - 4. 57 : 61

Question ID : 26433081576

Status : Answered

Chosen Option : 2

Q.5 एक पंचायत चुनाव में एक निर्दलीय उम्मीदवार को डाले गए कुल मतों के 28% मत प्राप्त हुए और उसे विजेता घोषित किया गया। शेष मत तीन राष्ट्रीय दलों के उम्मीदवारों के बीच समान रूप से विभाजित थे। यदि डाले गए कुल मत 1200 थे, तो राष्ट्रीय दल के उम्मीदवारों में से प्रत्येक को कितने मत मिले?

- Ans
- 1. 288
 - 2. 292
 - 3. 272
 - 4. 312

Question ID : 26433081483

Status : Answered

Chosen Option : 1

Q.6 20 गेंदों का क्रय मूल्य, 18 गेंदों के विक्रय मूल्य के बराबर है। लाभ प्रतिशत ज्ञात कीजिए।

- Ans
- 1. 14%
 - 2. 10%
 - 3. $\frac{100}{9}\%$
 - 4. 16%

Question ID : 26433075724

Status : Answered

Chosen Option : 3

Q.7 If the diameter and height of a cylinder are d cm and $\frac{d}{2}$ cm, respectively, then its volume is:

- Ans
- 1. $\pi \frac{d^3}{8} \text{ cm}^3$
 - 2. $\pi \frac{d^2}{4} \text{ cm}^3$
 - 3. $\pi \frac{d^2}{2} \text{ cm}^3$
 - 4. $\pi d^2 \text{ cm}^3$

Question ID : 26433075535

Status : Answered

Chosen Option : 1

Q.8 6 : 4 : 10 के अनुपात में तीन संख्याएँ इस प्रकार ज्ञात कीजिए कि उनके वर्गों का योग 3800 के बराबर हो।

- Ans
- 1. 30, 20 और 50
 - 2. 30, 20 और 40
 - 3. 40, 20 और 50
 - 4. 30, 30 और 50

Question ID : 26433081028

Status : Answered

Chosen Option : 1

Q.9 A 9 दिनों में $\frac{3}{4}$ कार्य पूरा कर सकता है और B 12 दिनों में कार्य का $\frac{2}{5}$ पूरा कर सकता है। C की सहायता से, तीनों साथ मिलकर 60/11 दिनों में सम्पूर्ण काम पूरा करते हैं और 330 रुपए कमाते हैं। यदि धन को किए गए कार्य के अनुपात में बांटा जाता है, तो C के हिस्से और A के हिस्से का अंतर ज्ञात करें।

- Ans
- 1. 60 रुपए
 - 2. 30 रुपए
 - 3. 40 रुपए
 - 4. 70 रुपए

Question ID : 264330116859

Status : Answered

Chosen Option : 2

Q.10 एक पुस्तक और कलम का कुल क्रय मूल्य Rs.371 है। यदि पुस्तक का क्रय मूल्य कलम से 12% अधिक है, तो कलम का क्रय मूल्य ज्ञात कीजिए।

- Ans
- 1. Rs.150
 - 2. Rs.175
 - 3. Rs.125
 - 4. Rs.200

Question ID : 26433076034
Status : Answered
Chosen Option : 2

Q.11 यदि राम ने 15 कमीजें ₹520 प्रति कमीज की दर से, 20 पैट ₹600 प्रति पैट की दर से और 15 कुर्ते ₹650 प्रति कुर्ता की दर से खरीदे, तो प्रत्येक वस्तु का औसत मूल्य _____ है।

- Ans
- 1. ₹691
 - 2. ₹519
 - 3. ₹619
 - 4. ₹591

Question ID : 26433079905
Status : Answered
Chosen Option : 4

Q.12 किस प्रकार की संख्याएँ सह-अभाज्य(कोप्राइम) नहीं होती हैं?

- Ans
- 1. कोई दो क्रमागत सम संख्याएँ
 - 2. कोई दो क्रमागत विषम संख्याएँ
 - 3. कोई दो अभाज्य संख्याएँ
 - 4. कोई दो क्रमागत संख्याएँ

Question ID : 26433080284
Status : Answered
Chosen Option : 1

Q.13 आनंद ने अपने परिवार के साथ कार द्वारा 50 km/h की चाल से गुंटूर से राजमुंदरी की यात्रा की और 60 km/h की चाल से गुंटूर लौट आया। पूरी यात्रा के लिए औसत चाल कितनी है? (दो दशमलव स्थान तक मान लें)

- Ans
- 1. 64.64 km/h
 - 2. 34.54 km/h
 - 3. 54.54 km/h
 - 4. 44.34 km/h

Question ID : 26433081042
Status : Answered
Chosen Option : 3

Q.14 20% वार्षिक की ब्याज दर पर, ब्याज के अर्धवार्षिक रूप से चक्रवृद्धि होने पर, ₹6,750 की राशि कितने समय में ₹8,984.25 हो जाएगी?

- Ans
- ✓ 1. $1\frac{1}{2}$ वर्ष
 - ✗ 2. 2 वर्ष
 - ✗ 3. $\frac{1}{2}$ वर्ष
 - ✗ 4. $2\frac{1}{2}$ वर्ष

Question ID : 26433076401

Status : Answered

Chosen Option : 2

Q.15 यदि संख्या 'a', 6 और 21 से विभाज्य है, तो 5a किससे विभाज्य होगी?

- Ans
- ✗ 1. 610
 - ✓ 2. 210
 - ✗ 3. 180
 - ✗ 4. 440

Question ID : 26433081699

Status : Answered

Chosen Option : 2

Q.16 एक डीलर ने एक वस्तु का मूल्य उत्पादन लागत से 40% बढ़ाकर निर्धारित किया। इसे बेचते समय वह 20% की छूट देता है और Rs.72 का लाभ अर्जित करता है। उस वस्तु की उत्पादन-लागत (Rs. में) ज्ञात कीजिए।

- Ans
- ✗ 1. Rs.590
 - ✗ 2. Rs.750
 - ✓ 3. Rs.600
 - ✗ 4. Rs.540

Question ID : 26433066306

Status : Answered

Chosen Option : 3

Q.17 एक कार पहले 35 km को 15 मिनट में और अगले 45 km को 25 मिनट में तय करती है। कार की औसत चाल क्या है?

- Ans
- ✗ 1. 135 km/h
 - ✗ 2. 130 km/h
 - ✓ 3. 120 km/h
 - ✗ 4. 124 km/h

Question ID : 26433080226

Status : Answered

Chosen Option : 4

Q.18 रमेश और सुरेश एक कार्य को क्रमशः 10 दिनों और 12 दिनों में पूरा कर सकते हैं। यदि वे रमेश से प्रारंभ करते हुए एकांतर दिनों (पहले दिन रमेश और दूसरे दिन सुरेश के आधार पर) पर कार्य करते हैं तो पूरा कार्य कितने दिनों में समाप्त हो जाएगा?

- Ans
- ✗ 1. $12\frac{10}{11}$
 - ✗ 2. $12\frac{5}{6}$
 - ✗ 3. $10\frac{10}{11}$
 - ✓ 4. $10\frac{5}{6}$

Question ID : 26433075569

Status : Answered

Chosen Option : 4

Q.19 मार्च के महीने में एक कर्मचारी का वेतन ₹7500 है और कंपनी हर महीने उसके वेतन में 2% की वृद्धि करती है। उसी वर्ष मई के महीने में उसका वेतन _____ है।

- Ans
- ✓ 1. ₹7,803
 - ✗ 2. ₹6,484
 - ✗ 3. ₹4,843
 - ✗ 4. ₹4,348

Question ID : 26433081558

Status : Answered

Chosen Option : 1

Q.20 जॉनसन 5% वार्षिक चक्रवृद्धि ब्याज पर ₹30,000 उधार लेता है। वह 2 साल के अंत तक दो समान वार्षिक किश्तों में इस राशि का भुगतान करना चाहता है। प्रत्येक वर्ष के अंत में उसे लगभग कितना भुगतान करना होगा?

- Ans
- ✗ 1. ₹15,784
 - ✗ 2. ₹15,231
 - ✗ 3. ₹16,274
 - ✓ 4. ₹16,134

Question ID : 26433080241

Status : Answered

Chosen Option : 1

Q.1 Select the most appropriate synonym of the given word.

Adamant

- Ans 1. Stubborn
 2. Genuine
 3. Lax
 4. Flexible

Question ID : 26433073431
Status : Not Answered
Chosen Option : --

Q.2 Select the most appropriate ANTONYM of the given word.

Propagate

- Ans 1. Deplete
 2. Spread
 3. Disseminate
 4. Communicate

Question ID : 26433073573
Status : Not Answered
Chosen Option : --

Q.3 Select the INCORRECTLY spelt word.

- Ans 1. Neigh
 2. Mischivious
 3. Gaiety
 4. Inoculate

Question ID : 26433073602
Status : Not Answered
Chosen Option : --

Q.4 Select the most appropriate meaning of the given idiom.

Sow wild oats

- Ans 1. Engaging in planning
 2. Engaging in rebelliousness or promiscuity
 3. Engaging in fighting
 4. Engaging in disobedience

Question ID : 26433072280
Status : Not Answered
Chosen Option : --

Q.5 Select the most appropriate ANTONYM of the given word.

Initial

- Ans
- 1. Inaugural
 - 2. Trivial
 - 3. Terminal
 - 4. Fractional

Question ID : 26433071971
Status : Not Answered
Chosen Option : --

Q.6 Select the most appropriate option that can substitute the underlined segment in the given sentence.

The reported alarm of the earthquake scared every citizen of the country.

- Ans
- 1. alarming report
 - 2. reporting alarm
 - 3. alarm reporting
 - 4. alarmed report

Question ID : 26433088165
Status : Not Answered
Chosen Option : --

Q.7 Parts of the following sentence have been underlined and given as options. Select the option that contains an error.

They eating three apples after last night's dinner.

- Ans
- 1. eating
 - 2. three
 - 3. night's
 - 4. after

Question ID : 26433089365
Status : Not Answered
Chosen Option : --

Q.8 Select the most appropriate option to fill in the blank.

Advancement in science and technology in many areas _____ the lives of people more advanced than the ancient times.

- Ans
- 1. was made
 - 2. has made
 - 3. is made
 - 4. have made

Question ID : 26433072732
Status : Not Answered
Chosen Option : --

Q.9 Select the most appropriate set of words to complete the sentence.

While teaching my son how to drive a car, I told him if he didn't hit the _____ in time he would _____ the car's side mirror.

- Ans
- 1. break; brake
 - 2. brake; brake
 - 3. brake; break
 - 4. break; break

Question ID : 26433088872

Status : Not Answered

Chosen Option : --

Q.10 Select the most appropriate synonym of the given word.

Salty

- Ans
- 1. Saline
 - 2. Prim
 - 3. Feline
 - 4. Pricky

Question ID : 26433089341

Status : Not Answered

Chosen Option : --

Q.11 Identify the correctly spelt sentence.

- Ans
- 1. The water cycle is a circular proces.
 - 2. The water cycle is a circuler proces.
 - 3. The water cycle is a circqlar process.
 - 4. The water cycle is a circular process.

Question ID : 26433072828

Status : Not Answered

Chosen Option : --

Q.12 Select the most appropriate ANTONYM of the given word.

Latent

- Ans
- 1. Dormant
 - 2. Deceitful
 - 3. Casual
 - 4. Obvious

Question ID : 26433071979

Status : Not Answered

Chosen Option : --

Q.13 Select the most appropriate ANTONYM of the given word.
Rare

- Ans
- 1. Careless
 - 2. Usual
 - 3. Discreet
 - 4. Unique

Question ID : 26433086345
Status : Not Answered
Chosen Option : --

Q.14 Select the correct option to substitute the underlined segment in the given sentence.
Many people across the globe have been effected by the pandemic.

- Ans
- 1. have been affected
 - 2. has been effected
 - 3. have effected
 - 4. have affected

Question ID : 26433092995
Status : Not Answered
Chosen Option : --

Q.15 Select the most appropriate meaning of the given idiom.

Let the cat out of the bag

- Ans
- 1. To reveal a secret accidentally
 - 2. To praise oneself
 - 3. To make an announcement
 - 4. To work continuously

Question ID : 26433072677
Status : Not Answered
Chosen Option : --

Comprehension:

In the following passage, some words have been deleted. Read the passage carefully and select the most appropriate option to fill in each blank.

Humans have (1)_____ that animals do not have a life and maybe exploited in any way they see fit, but this (2)_____ is incorrect and must be altered before it is too late. We fail to recognise that the pain we (3)_____ on animals will come back to haunt us, and no matter how (4)_____ the discovery we make by causing harm to animals, it will be futile. It can never (5)_____ the human actions.

SubQuestion No : 16

Q.16 Select the most appropriate option to fill in blank number 1.

- Ans 1. pretended
 2. assumed
 3. claimed
 4. assigned

Question ID : 26433061001

Status : Not Answered

Chosen Option : --

Comprehension:

In the following passage, some words have been deleted. Read the passage carefully and select the most appropriate option to fill in each blank.

Humans have (1)_____ that animals do not have a life and maybe exploited in any way they see fit, but this (2)_____ is incorrect and must be altered before it is too late. We fail to recognise that the pain we (3)_____ on animals will come back to haunt us, and no matter how (4)_____ the discovery we make by causing harm to animals, it will be futile. It can never (5)_____ the human actions.

SubQuestion No : 17

Q.17 Select the most appropriate option to fill in blank number 2.

- Ans 1. data
 2. superstition
 3. perspective
 4. fact

Question ID : 26433061002

Status : Not Answered

Chosen Option : --

Comprehension:

In the following passage, some words have been deleted. Read the passage carefully and select the most appropriate option to fill in each blank.

Humans have (1)_____ that animals do not have a life and maybe exploited in any way they see fit, but this (2)_____ is incorrect and must be altered before it is too late. We fail to recognise that the pain we (3)_____ on animals will come back to haunt us, and no matter how (4)_____ the discovery we make by causing harm to animals, it will be futile. It can never (5)_____ the human actions.

SubQuestion No : 18

Q.18 Select the most appropriate option to fill in blank number 3.

- Ans 1. convict
 2. conflict
 3. inflict
 4. afflict

Question ID : 26433061003

Status : Not Answered

Chosen Option : --

Comprehension:

In the following passage, some words have been deleted. Read the passage carefully and select the most appropriate option to fill in each blank.

Humans have (1)_____ that animals do not have a life and maybe exploited in any way they see fit, but this (2)_____ is incorrect and must be altered before it is too late. We fail to recognise that the pain we (3)_____ on animals will come back to haunt us, and no matter how (4)_____ the discovery we make by causing harm to animals, it will be futile. It can never (5)_____ the human actions.

SubQuestion No : 19

Q.19 Select the most appropriate option to fill in blank number 4.

- Ans 1. painful
 2. significant
 3. bad
 4. limited

Question ID : 26433061004

Status : Not Answered

Chosen Option : --

Comprehension:

In the following passage, some words have been deleted. Read the passage carefully and select the most appropriate option to fill in each blank.

Humans have (1)_____ that animals do not have a life and maybe exploited in any way they see fit, but this (2)_____ is incorrect and must be altered before it is too late. We fail to recognise that the pain we (3)_____ on animals will come back to haunt us, and no matter how (4)_____ the discovery we make by causing harm to animals, it will be futile. It can never (5)_____ the human actions.

SubQuestion No : 20

Q.20 Select the most appropriate option to fill in blank number 5.

- Ans 1. specify
 2. justify
 3. classify
 4. nullify

Question ID : 26433061005

Status : Not Answered

Chosen Option : --

Section : Part-D-Hindi

Q.1 “अक्षदा उपवन में टहलने गई थी।”
उपर्युक्त वाक्य को संदिग्ध वर्तमान काल का प्रयोग कर पुनः लिखिए।

- Ans 1. अक्षदा उपवन में टहल रही थी।
 2. अक्षदा उपवन में टहलने गई।
 3. अक्षदा उपवन में टहलने गई होगी।
 4. अक्षदा उपवन में टहलने जा रही है।

Question ID : 26433066982

Status : Answered

Chosen Option : 4

Q.2 वाक्य में रेखांकित मुहावरे का उपयुक्त अर्थ दिए गए विकल्पों में से चुनिए-
वह तो हरदम लंगर-लंगोट कसकर तैयार रहता है।

- Ans 1. काम करने को तैयार होना
 2. लड़ने को तैयार होना
 3. जाने को तैयार होना
 4. स्वागत को तैयार होना

Question ID : 26433062309

Status : Answered

Chosen Option : 2

Q.3 विकल्पों में से किस वाक्य में नीचे दिए गए शब्द के उपयुक्त विलोम शब्द का प्रयोग हुआ है?
अवनति

- Ans
- 1. भारत में आर्थिक उन्नति हो रही है।
 - 2. अपने देश में शारीरिक दुर्बलता हो रही है।
 - 3. भारत में आर्थिक विसंगति हो रही है।
 - 4. भारत में आर्थिक जागृति हो रही है।

Question ID : 26433066944
Status : Answered
Chosen Option : 1

Q.4 इनमें से क्या 'महावीर' का अर्थ नहीं है?

- Ans
- 1. जैन तीर्थंकर
 - 2. हनुमान
 - 3. महादेव
 - 4. शक्तिशाली

Question ID : 26433080940
Status : Answered
Chosen Option : 3

Q.5 दिए गए वाक्यों में से किस वाक्य में सही विभक्ति चिह्न का प्रयोग नहीं हुआ है?

- Ans
- 1. गर्मियों की छुट्टियाँ शुरू होने वाली थीं।
 - 2. सौम्या के नाना का घर देहरादून में है।
 - 3. कोच्चि में रामानुजन पर मौसी रहती हैं।
 - 4. रोहन हवाई जहाज़ से मुम्बई जायेगा।

Question ID : 26433074408
Status : Answered
Chosen Option : 3

Q.6 निम्नलिखित वाक्यांश के लिए उपयुक्त सार्थक शब्द क्या होगा?
आयु में बड़ा व्यक्ति

- Ans
- 1. पूजनीय
 - 2. ज्येष्ठ
 - 3. श्रेष्ठ
 - 4. महान

Question ID : 26433065758
Status : Answered
Chosen Option : 3

Q.7 निम्नलिखित वाक्य के रिक्त स्थान में सबसे उपयुक्त मुहावरा क्या होगा?
'रेल दुर्घटना मे दुर्गा _____ बच गई।'

- Ans
- 1. एक-एक
 - 2. बाल-बाल
 - 3. पानी पानी
 - 4. नौ-दो

Question ID : 26433066723
Status : Answered
Chosen Option : 2

Q.8 निम्नलिखित शब्दों में से कौन सा शब्द अनेकार्थी शब्द है?

- Ans
- 1. पोत
 - 2. जहाज
 - 3. हवाई जहाज
 - 4. रेलगाड़ी

Question ID : 26433091320
Status : Answered
Chosen Option : 4

Q.9 निम्नलिखित वाक्य की पूर्ति उचित कर्ता कारक चिह्न से करें।
'सोहन _____ घर का सारा काम किया है।'

- Ans
- 1. से
 - 2. ने
 - 3. पर
 - 4. में

Question ID : 26433085029
Status : Answered
Chosen Option : 2

Q.10 'फूल किसे नहीं भाते हैं!' उपरोक्त वाक्य में रेखांकित शब्द के उचित पर्यायवाची शब्द का चयन कीजिए।

- Ans
- 1. कुसुम
 - 2. रसाल
 - 3. कांता
 - 4. अवनी

Question ID : 26433079618
Status : Answered
Chosen Option : 1

Q.11 रेखांकित शब्द-समूह के लिए सर्वाधिक उपयुक्त विकल्प चुनें।
राजभवन के अंदर महिलाओं का निवास है।

- Ans
- 1. आवास
 - 2. स्त्रियावास
 - 3. अंतःपुर
 - 4. स्त्रीपुर

Question ID : 26433062279
Status : Answered
Chosen Option : 1

Q.12 'अंजुमन हँस रही थी।' इस वाक्य का सकर्मक क्रिया में रूपांतरण होगा -

- Ans
- 1. अंजुमन हँसती है।
 - 2. अंजुमन हँस कर चली गई।
 - 3. नैना अंजुमन को हँसा रही है।
 - 4. अंजुमन से हँसा नहीं जाता।

Question ID : 26433062322
Status : Answered
Chosen Option : 3

Q.13 'बिना वेतन के काम करने वाला' वाक्यांश के लिए उचित शब्द बताइए -

- Ans
- 1. सवैतनिक
 - 2. निवैतनिक
 - 3. वैतनिक
 - 4. अवैतनिक

Question ID : 26433065910
Status : Answered
Chosen Option : 4

Q.14 निम्नलिखित वाक्य के किस खंड में त्रुटि है?
'सच में क्या तुम्हें प्रथम स्थान मिला है?'

- Ans
- 1. क्या तुम्हें
 - 2. प्रथम स्थान
 - 3. सच में
 - 4. मिला है?

Question ID : 26433066755
Status : Answered
Chosen Option : 1

Q.15 निम्नलिखित वाक्य के किस खंड में त्रुटि है?
'मुझे भारी दुःख हुआ।'

- Ans
- 1. मुझे
 - 2. भारी
 - 3. हुआ
 - 4. दुःख

Question ID : 26433066758

Status : Answered

Chosen Option : 2

Comprehension:

निम्नलिखित गद्यांश में कुछ शब्दों को हटा दिया गया है। दिए गए विकल्पों की सहायता से रिक्त स्थानों की पूर्ति कीजिए। प्रत्येक संख्या के लिए सबसे उपयुक्त विकल्प का चयन कीजिए। संसार के सभी महापुरुष 1. _____ के कारण ही महान बने हैं। राम ने 2. _____ भटक कर लंका पर विजय प्राप्त की थी। 3. _____ ने मराठों को एकत्रित करके हिन्दुओं की रक्षा की थी। कोलंबस ने स्वावलंबन से ही 4. _____ की खोज की थी। स्वावलंबन का गुण वैसे तो किसी भी आयु में हो सकता है परन्तु यह बालकों में शीघ्र उत्पन्न किया जा सकता है। यह चरित्र में विकास की 5. _____ है।

SubQuestion No : 16

Q.16 रिक्त स्थान 1 की पूर्ति के लिए सबसे उपयुक्त विकल्प का चयन करें।

- Ans
- 1. सुस्त
 - 2. स्वावलंबन
 - 3. आलसी
 - 4. काहिल

Question ID : 264330110915

Status : Answered

Chosen Option : 2

Comprehension:

निम्नलिखित गद्यांश में कुछ शब्दों को हटा दिया गया है। दिए गए विकल्पों की सहायता से रिक्त स्थानों की पूर्ति कीजिए। प्रत्येक संख्या के लिए सबसे उपयुक्त विकल्प का चयन कीजिए। संसार के सभी महापुरुष 1. _____ के कारण ही महान बने हैं। राम ने 2. _____ भटक कर लंका पर विजय प्राप्त की थी। 3. _____ ने मराठों को एकत्रित करके हिन्दुओं की रक्षा की थी। कोलंबस ने स्वावलंबन से ही 4. _____ की खोज की थी। स्वावलंबन का गुण वैसे तो किसी भी आयु में हो सकता है परन्तु यह बालकों में शीघ्र उत्पन्न किया जा सकता है। यह चरित्र में विकास की 5. _____ है।

SubQuestion No : 17

Q.17 रिक्त स्थान 2 की पूर्ति के लिए सबसे उपयुक्त विकल्प का चयन करें।

- Ans
- 1. तन-मन
 - 2. वन-वान
 - 3. कण-कण
 - 4. वन-वन

Question ID : 264330110916

Status : Answered

Chosen Option : 2

Comprehension:

निम्नलिखित गद्यांश में कुछ शब्दों को हटा दिया गया है। दिए गए विकल्पों की सहायता से रिक्त स्थानों की पूर्ति कीजिए। प्रत्येक संख्या के लिए सबसे उपयुक्त विकल्प का चयन कीजिए। संसार के सभी महापुरुष 1. _____ के कारण ही महान बने हैं। राम ने 2. _____ भटक कर लंका पर विजय प्राप्त की थी। 3. _____ ने मराठों को एकत्रित करके हिन्दुओं की रक्षा की थी। कोलंबस ने स्वावलंबन से ही 4. _____ की खोज की थी। स्वावलंबन का गुण वैसे तो किसी भी आयु में हो सकता है परन्तु यह बालकों में शीघ्र उत्पन्न किया जा सकता है। यह चरित्र में विकास की 5. _____ है।

SubQuestion No : 18

Q.18 रिक्त स्थान 3 की पूर्ति के लिए सबसे उपयुक्त विकल्प का चयन करें।

- Ans
- 1. बाजी प्रभु देशपांडे
 - 2. बाजीराव
 - 3. छत्रपति शिवाजी
 - 4. बालाजी विश्वनाथ

Question ID : 264330110917

Status : Answered

Chosen Option : 3

Comprehension:

निम्नलिखित गद्यांश में कुछ शब्दों को हटा दिया गया है। दिए गए विकल्पों की सहायता से रिक्त स्थानों की पूर्ति कीजिए। प्रत्येक संख्या के लिए सबसे उपयुक्त विकल्प का चयन कीजिए। संसार के सभी महापुरुष 1. _____ के कारण ही महान बने हैं। राम ने 2. _____ भटक कर लंका पर विजय प्राप्त की थी। 3. _____ ने मराठों को एकत्रित करके हिन्दुओं की रक्षा की थी। कोलंबस ने स्वावलंबन से ही 4. _____ की खोज की थी। स्वावलंबन का गुण वैसे तो किसी भी आयु में हो सकता है परन्तु यह बालकों में शीघ्र उत्पन्न किया जा सकता है। यह चरित्र में विकास की 5. _____ है।

SubQuestion No : 19

Q.19 रिक्त स्थान 4 की पूर्ति के लिए सबसे उपयुक्त विकल्प का चयन करें।

- Ans
- 1. अफ्रीका
 - 2. भारत
 - 3. रूस
 - 4. अमेरिका

Question ID : 264330110918

Status : Not Answered

Chosen Option : --

Comprehension:

निम्नलिखित गद्यांश में कुछ शब्दों को हटा दिया गया है। दिए गए विकल्पों की सहायता से रिक्त स्थानों की पूर्ति कीजिए। प्रत्येक संख्या के लिए सबसे उपयुक्त विकल्प का चयन कीजिए।
संसार के सभी महापुरुष 1. _____ के कारण ही महान बने हैं। राम ने 2. _____ भटक कर लंका पर विजय प्राप्त की थी। 3. _____ ने मराठों को एकत्रित करके हिन्दुओं की रक्षा की थी। कोलंबस ने स्वावलंबन से ही 4. _____ की खोज की थी। स्वावलंबन का गुण वैसे तो किसी भी आयु में हो सकता है परन्तु यह बालकों में शीघ्र उत्पन्न किया जा सकता है। यह चरित्र में विकास की 5. _____ है।

SubQuestion No : 20

Q.20 रिक्त स्थान 5 की पूर्ति के लिए सबसे उपयुक्त विकल्प का चयन करें।

- Ans 1. प्रथम सीढ़ी
 2. द्वितीय सीढ़ी
 3. चतुर्थ सीढ़ी
 4. तृतीय सीढ़ी

Question ID : 264330110919

Status : Answered

Chosen Option : 1

KD Job Updates

Constable GD in CAPFs SSF Rifleman GD in Assam Rifles and Sepoy in NCB Examination 2022

Roll Number	KD Job Updates
Candidate Name	KD Job Updates
Venue Name	B.B.S. Group of Institutions
Exam Date	31/01/2023
Exam Time	5:15 PM - 6:15 PM
Subject	Constable GD Examination 2022

Section : Part-A-General Intelligence and Reasoning

Q.1 उस विकल्प का चयन कीजिए जो पांचवें अक्षर-समूह से उसी प्रकार संबंधित है जिस प्रकार दूसरा अक्षर-समूह, पहले अक्षर-समूह से संबंधित है और चौथा अक्षर-समूह, तीसरे अक्षर-समूह से संबंधित है।
PJM : LHM :: NSV : UQK :: JTW : ?

- Ans
- 1. USH
 - 2. VPG
 - 3. VRG
 - 4. WRG

Question ID : 26433057715

Status : Answered

Chosen Option : 3

Q.2 दर्पण को चित्र में दिखाए अनुसार MN पर रखे जाने पर दी गई आकृति के सही दर्पण प्रतिबिंब का चयन करें।

A t 5 6 j 3 6 y | M
N

- Ans
- 1. y j e e a a t A
 - 2. y e e j a a t A
 - 3. y e e j a a t A
 - 4. y a e j a a t A

Question ID : 26433082328

Status : Answered

Chosen Option : 4

Q.3 कौन-सा अक्षर-समूह दी गई श्रृंखला में प्रश्नचिह्न (?) के स्थान पर आकर श्रृंखला को पूर्ण करेगा?
PBXJ, TFJX, ?, BNJX, FRXJ

- Ans
- 1. VKJX
 - 2. VLXJ
 - 3. WKJX
 - 4. XJXJ

Question ID : 26433068037
Status : Answered
Chosen Option : 4

Q.4 निम्न श्रृंखला में प्रश्न-चिह्न (?) के स्थान पर कौन सी संख्या आएगी?
7, 21, 35, ?, 63

- Ans
- 1. 49
 - 2. 40
 - 3. 62
 - 4. 50

Question ID : 26433067839
Status : Answered
Chosen Option : 1

Q.5 एक निश्चित कूट भाषा में 'EARTH' को 'AERHT' के रूप में लिखा जाता है और 'VENUS' को 'EVNSU' के रूप में लिखा जाता है। उसी भाषा में 'PLANT' को किस प्रकार लिखा जाएगा?

- Ans
- 1. LPTAN
 - 2. LPANT
 - 3. LAPT N
 - 4. LPATN

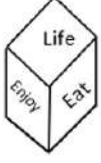
Question ID : 26433068225
Status : Answered
Chosen Option : 4

Q.6 उस विकल्प का चयन कीजिए जो तीसरे शब्द से उसी प्रकार संबंधित है जिस प्रकार दूसरा शब्द पहले शब्द से संबंधित है। (शब्दों को अर्थपूर्ण शब्दों के रूप में मानना है और उन्हें शब्द में अक्षरों/व्यंजनों/स्वरों की संख्या के आधार पर एक-दूसरे से संबंधित नहीं करना है।)
दासता : स्वतंत्रता :: नफरत : ?

- Ans
- 1. तैराकी करना
 - 2. व्यक्ति
 - 3. विवाह
 - 4. प्यार

Question ID : 26433069579
Status : Answered
Chosen Option : 4

Q.7 एक ही पासे की दो अलग-अलग स्थितियों को दर्शाया गया है जिस पर छह अलग-अलग शब्द लिखे हैं - जो कि Life, Eat, Enjoy, Sleep, Love और Care हैं। 'Life' दर्शाने वाले फलक के विपरीत फलक पर लिखा शब्द ज्ञात कीजिए।



Ans ✓ 1. Sleep

✗ 2. Care

✗ 3. Love

✗ 4. Enjoy

Question ID : 26433085523

Status : Answered

Chosen Option : 1

Q.8 दिए गए कथनों और निष्कर्षों को ध्यानपूर्वक पढ़िए। यह मानते हुए कि कथनों में दी गई जानकारी सत्य है, चाहे वह सामान्य रूप से ज्ञात तथ्यों से भिन्न प्रतीत होती हो, निर्धारित कीजिए कि दिए गए निष्कर्षों में से कौन-सा/से कथनों का तार्किक रूप से अनुसरण करता है/करते हैं।

कथन:

- A. सभी बॉक्स पेन हैं।
- B. कुछ बॉक्स जग हैं।
- C. कुछ जग गिलास हैं।

निष्कर्ष:

- I. कुछ गिलास बॉक्स हैं।
- II. कोई गिलास बॉक्स नहीं है।
- III. कुछ जग पेन हैं।

Ans ✓ 1. केवल निष्कर्ष III अनुसरण करता है।

✗ 2. केवल निष्कर्ष I अनुसरण करता है।

✗ 3. तीनों निष्कर्ष अनुसरण करते हैं।

✗ 4. निष्कर्ष I और II दोनों अनुसरण करते हैं।

Question ID : 26433081634

Status : Answered

Chosen Option : 1

Q.9 निम्नलिखित में से कौन-सी संख्या दी गई श्रृंखला में प्रश्न-चिह्न (?) को प्रतिस्थापित करेगी?
235, 271, ?, 349, 391, 435

Ans ✓ 1. 309

✗ 2. 313

✗ 3. 307

✗ 4. 311

Question ID : 26433069395

Status : Answered

Chosen Option : 1

Q.10 किस विकल्प में निम्नलिखित शब्दों का वह क्रम दिया गया है, जिस क्रम में वे अंग्रेजी शब्दकोश में आते हैं?

- 1 Fountain
- 2 Found
- 3 Fond
- 4 Focus
- 5 Follow

Ans 1. 4,5,3,2,1

2. 4,3,5,1,2

3. 4,5,1,2,3

4. 5,4,3,2,1

Question ID : 26433069282

Status : Answered

Chosen Option : 1

Q.11 निम्नलिखित में से कौन-सा अक्षर-समूह नीचे दी गई अक्षर-समूह श्रृंखला में प्रश्न-चिह्न (?) के स्थान पर आकर श्रृंखला को पूर्ण करेगा?
EU, CS, YQ, SO, ?

Ans 1. KM

2. JM

3. KE

4. KL

Question ID : 26433067297

Status : Answered

Chosen Option : 1

Q.12 8 मित्र A, B, C, D, E, F, G, और H एक वृत्ताकार मेज के परितः मेज के केंद्र की ओर मुख करके बैठे हैं। A, B और C के ठीक बगल में बैठा है। H, F और G के ठीक बगल में बैठा है। D, B के बाईं ओर ठीक बगल में बैठा है। E, C के दाईं ओर ठीक बगल में बैठा है। A और H एक दूसरे के सामने बैठे हैं। B के दाईं ओर ठीक बगल में कौन बैठा है?

Ans 1. F

2. A

3. H

4. E

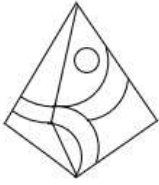
Question ID : 26433080435

Status : Answered

Chosen Option : 2

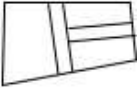
Q.13 वह विकल्प चित्र चुनिए, जो प्रस्तुत चित्र में अंतर्निहित है। (घुमाना अनुमन्य नहीं

है)

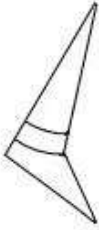


Ans

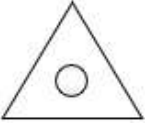
✗ 1.



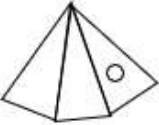
✓ 2.



✗ 3.



✗ 4.



Question ID : 26433069332

Status : Answered

Chosen Option : 2

KD Job Updates

Q.14 यदि श्रृंखला जारी रखनी है तो कौन-सी आकृति प्रश्न चिह्न (?) के स्थान पर

आएगी?

PICTER	REICTP	IREPCT	TCREPI	?
--------	--------	--------	--------	---

Ans

✗ 1. CREPIT

✗ 2. RTCPIE

✗ 3. ITCREP

✓ 4. RTCIEP

Question ID : 26433076634

Status : Answered

Chosen Option : 3

Q.15 नीचे दिए गए समीकरण को गणितीय रूप से सही बनाने के लिए किन दो गणितीय चिह्नों को परस्पर बदलना चाहिए?

$$17 + 98 \div 14 - 8 \times 68 = 179$$

Ans ✗ 1. + और ×

✓ 2. + और ×

✗ 3. + और +

✗ 4. + और -

Question ID : 264330117490

Status : Answered

Chosen Option : 2

Q.16 एक निश्चित कूट भाषा में, 'cat pen' को 'tin de' के रूप में कूटबद्ध किया जाता है, 'animal tiger' को 'sin xe' के रूप में कूटबद्ध किया जाता है और 'pen tiger' को 'de xe' के रूप में कूटबद्ध किया जाता है। 'cat' के लिए कूट शब्द क्या होगा?

Ans 1. pen

2. tin

3. de

4. xe

Question ID : 26433079364

Status : Answered

Chosen Option : 2

Q.17 नीचे दिए गए समीकरण को गणितीय रूप से सही बनाने के लिए किन दो गणितीय चिह्नों को परस्पर बदलना चाहिए?

$$120 \div 15 + 60 - 4 \times 2 = 135$$

Ans 1. + और -

2. + और ×

3. × और -

4. + और ×

Question ID : 264330114194

Status : Answered

Chosen Option : 1

Q.18 उस समुच्चय का चयन करें, जिसकी संख्याओं के बीच ठीक वही संबंध है, जो संबंध निम्नांकित समुच्चयों की संख्याओं में हैं।

(नोट: संख्याओं को उसके घटक अंकों में विभाजित किए बिना, पूर्ण संख्याओं पर ही गणितीय संक्रियाएँ की जानी चाहिए। जैसे 13 - मान लीजिए 13 पर गणितीय संक्रियाएँ जैसे कि 13 में जोड़ना/घटाना/गुणा करना आदि किया जा सकता है। 13 को 1 और 3 में तोड़कर और फिर 1 और 3 पर गणितीय संक्रियाएँ करने की अनुमति नहीं है।)

(13, 150, 17)

(10, 130, 16)

Ans 1. (11, 150, 15)

2. (11, 110, 19)

3. (12, 116, 17)

4. (8, 135, 19)

Question ID : 26433076543

Status : Answered

Chosen Option : 3

Q.19 'A - B' का अर्थ है 'B, A की माता है'

'A # B' का अर्थ है 'B, A की बहन है'

'A \$ B' का अर्थ है 'B, A का पति है'

यदि A - B # C - D \$ E है, तो E, A से किस प्रकार संबंधित है?

Ans 1. नाना

2. मामा

3. पति

4. पिता

Question ID : 26433068530

Status : Answered

Chosen Option : 1

Q.20 अनिल, बंटी, चौबे, दिशांत और ईशान पांच छात्र एक वृत्ताकार मेज के परितः मेज के केंद्र की ओर मुख करके बैठे हुए हैं। दिशांत, अनिल के दाईं ओर ठीक बगल में बैठा है। चौबे, दिशांत या अनिल के बगल में नहीं बैठा है। ईशान, चौबे के दाईं ओर ठीक बगल में बैठा है। दिशांत के दाईं ओर ठीक बगल में कौन बैठा है?

- Ans
- 1. ईशान
 - 2. बंटी
 - 3. अनिल
 - 4. चौबे

Question ID : 264330114207
Status : Answered
Chosen Option : 2

Section : Part-B-General Knowledge and General awareness

Q.1 सुदीप रॉय बर्मन जून 2022 में _____ निर्वाचन क्षेत्र से विधान सभा के सदस्य बने।

- Ans
- 1. हाजीपुर
 - 2. बिलासपुर
 - 3. अगरतला
 - 4. मैसूर

Question ID : 264330114913
Status : Answered
Chosen Option : 2

Q.2 1967 में, पश्चिम बंगाल के दार्जिलिंग जिले के नक्सलबाड़ी में शुरू हुए आंदोलन का नाम क्या था?

- Ans
- 1. भूदान आंदोलन
 - 2. भारत छोड़ो आंदोलन
 - 3. चिपको आंदोलन
 - 4. नक्सली आंदोलन

Question ID : 264330115686
Status : Answered
Chosen Option : 4

Q.3 यामिनी कृष्णमूर्ति ने किस नृत्य शैली के लिए विभिन्न पुरस्कार जीते हैं?

- Ans
- 1. भरतनाट्यम और मोहिनीअट्टम
 - 2. कुचिपुड़ी और मोहिनीअट्टम
 - 3. कुचिपुड़ी और भरतनाट्यम
 - 4. कथक और कुचिपुड़ी

Question ID : 264330115841
Status : Answered
Chosen Option : 3

Q.4 किस ऋतु में उत्तर-पूर्वी व्यापारिक पवन भारत में प्रबल होती है?

- Ans
- 1. वर्षाऋतु
 - 2. ग्रीष्म
 - 3. पतझड़
 - 4. शीत

Question ID : 264330115979
Status : Answered
Chosen Option : 4

Q.5 2017 में भारत की जन्म दर क्या थी?

- Ans
- 1. 24.8
 - 2. 16.6
 - 3. 20.2
 - 4. 26.4

Question ID : 264330116136
Status : Answered
Chosen Option : 3

Q.6 हालड़ा उत्सव मुख्य रूप से भारत के निम्नलिखित में से किस राज्य में मनाया जाता है?

- Ans
- 1. राजस्थान
 - 2. हिमाचल प्रदेश
 - 3. आंध्र प्रदेश
 - 4. पश्चिम बंगाल

Question ID : 26433094884
Status : Answered
Chosen Option : 4

Q.7 प्रथम पंचवर्षीय योजना का मुख्य फोकस कृषि जैसे _____ क्षेत्र को विकसित करना था।

- Ans
- 1. द्वितीयक
 - 2. प्राथमिक
 - 3. बहु
 - 4. तृतीयक

Question ID : 264330115379
Status : Answered
Chosen Option : 2

Q.8 सितंबर 2022 में, कनाडा में भारत के अगले उच्चायुक्त के रूप में किसे नियुक्त किया गया है?

- Ans
- 1. प्रभात प्रकाश शुक्ल
 - 2. प्रणय कुमार वर्मा
 - 3. संजय कुमार वर्मा
 - 4. गोपाल बागले

Question ID : 264330114980
Status : Not Answered
Chosen Option : --

Q.9 निम्नलिखित में से किस खिलाड़ी को वर्ष 2001 में अर्जुन पुरस्कार से सम्मानित किया गया था?

- Ans
- 1. मनमोहन सिंह लोधी
 - 2. सरबजीत सिंह
 - 3. परमिंदर सिंह
 - 4. प्रशांति सिंह

Question ID : 26433089921
Status : Answered
Chosen Option : 2

Q.10 स्टार्टअप इंडिया सीड फंड स्कीम (SISFS) 19 अप्रैल 2021 को _____ द्वारा शुरू की गई थी।

- Ans
- 1. स्मृति ईरानी
 - 2. अमित शाह
 - 3. पीयूष गोयल
 - 4. नरेंद्र मोदी

Question ID : 264330116187
Status : Answered
Chosen Option : 4

Q.11 निम्नलिखित में से किस शास्त्रीय नृत्य का केंद्रीय विषय कृष्ण और राधा की प्रेम गाथा है?

- Ans
- 1. सत्रीया
 - 2. कुचिपुड़ी
 - 3. मणिपुरी
 - 4. ओडिसी

Question ID : 264330115063
Status : Answered
Chosen Option : 3

Q.12 युवा मामले और खेल मंत्रालय द्वारा टारगेट ओलिंपिक पोडियम योजना (TOPS) की स्थापना किस वर्ष की गई थी?

- Ans
- 1. 2016
 - 2. 2012
 - 3. 2018
 - 4. 2014

Question ID : 26433092326
Status : Not Answered
Chosen Option : --

Q.13 निम्नलिखित मौर्य सम्राटों में से किसे पियदस्सी के नाम से जाना जाता था?

- Ans
- 1. दशरथ
 - 2. बिंदुसार
 - 3. बृहद्रथ
 - 4. अशोक

Question ID : 264330115451
Status : Answered
Chosen Option : 4

Q.14 भारतीय संविधान द्वारा कितने मूल अधिकार प्रदान किए गए हैं?

- Ans
- 1. 8
 - 2. 7
 - 3. 6
 - 4. 5

Question ID : 264330115612
Status : Answered
Chosen Option : 3

Q.15 निम्नलिखित में से किस केंद्र शासित प्रदेश में लेफ्टिनेंट गवर्नर (उप-राज्यपाल) नहीं है?

- Ans
- 1. नई दिल्ली
 - 2. पुदुचेरी
 - 3. दमन और दीव
 - 4. अंडमान और निकोबार द्वीप समूह

Question ID : 26433086832
Status : Answered
Chosen Option : 2

Q.16 विद्युत विभवांतर का SI मात्रक क्या है?

- Ans
- 1. वाट
 - 2. एम्पियर
 - 3. वोल्ट
 - 4. जूल

Question ID : 26433089646
Status : Answered
Chosen Option : 3

Q.17 किशोरावस्था में शारीरिक छवि विकृति से जुड़े विकार का नाम बताएं।

- Ans
- 1. सीजोफ्रेनिया
 - 2. डिप्रेशन
 - 3. अल्जाइमर रोग
 - 4. एनोरेक्सिया नर्वोसा

Question ID : 264330115224
Status : Answered
Chosen Option : 4

Q.18 भौगोलिक दृष्टि से भारत का सबसे छोटा राज्य कौन-सा है ?

- Ans
- 1. मिज़ोरम
 - 2. सिक्किम
 - 3. गोवा
 - 4. त्रिपुरा

Question ID : 264330116050
Status : Answered
Chosen Option : 3

Q.19 ऐसी स्थिति, जिसमें सरकार अपने द्वारा एकत्रित राजस्व के बराबर राशि खर्च कर सकती है, _____ की स्थिति कहलाती है।

- Ans
- 1. अधिशेष बजट
 - 2. संतुलित बजट
 - 3. पूंजीगत बजट
 - 4. घाटे का बजट

Question ID : 264330115277
Status : Answered
Chosen Option : 2

Q.20 निम्नलिखित में से कौन-सा, भारत में ग्रीष्मकालीन फसल का मौसम है?

- Ans
- 1. रबी
 - 2. ज़ायद
 - 3. खरीफ
 - 4. वर्षाऋतु

Question ID : 264330115524
Status : Answered
Chosen Option : 3

Section : Part-C-Elementary Mathematics

Q.1 सीमा ने एक नाव खरीदी जिसकी लागत उसे 3200 रुपए पड़ी और अंकित मूल्य 4000 रुपए था। उसे कितनी छूट मिली?

- Ans
- 1. 500 रुपए
 - 2. 700 रुपए
 - 3. 600 रुपए
 - 4. 800 रुपए

Question ID : 264330116716
Status : Answered
Chosen Option : 4

Q.2 उस ढक्कन वाले बेलनाकार पात्र का कुल पृष्ठीय क्षेत्रफल (cm^2 में) ज्ञात करें, जिसका आधार व्यास k cm और

ऊँचाई $\frac{k}{2}$ cm है।

- Ans
- 1. $\frac{\pi k^2}{2}$
 - 2. $\frac{\pi k^2}{4}$
 - 3. $2\pi k^2$
 - 4. πk^2

Question ID : 26433079975

Status : Answered

Chosen Option : 3

Q.3 निम्नलिखित संख्याओं का औसत 25 है। X का मान ज्ञात करें।
24, 30, 12, 18, 20, 10, 40, X

- Ans
- 1. 46
 - 2. 47
 - 3. 45
 - 4. 48

Question ID : 264330116684

Status : Answered

Chosen Option : 1

Q.4 एक असाइनमेंट प्रस्तुत करने में विलंब के कारण सुहानी के अंक 10 प्रतिशत से कम हो गए और उसे 135 अंक प्राप्त हुए। असाइनमेंट में उसके कितने अंक हो सकते थे, यदि प्रस्तुत करने में कोई विलंब न होता?

- Ans
- 1. 150
 - 2. 155
 - 3. 140
 - 4. 145

Question ID : 264330116791

Status : Answered

Chosen Option : 1

Q.5 एक शिक्षक ने कक्षा में एक यूनिट टेस्ट आयोजित किया। यदि 30 छात्रों में से 14 छात्रों ने 80 और शेष 16 छात्रों ने 65 अंक प्राप्त किए, तो भारत औसत अंक क्या होंगे?

- Ans
- 1. 70
 - 2. 72
 - 3. 76
 - 4. 75

Question ID : 26433075640

Status : Answered

Chosen Option : 2

Q.6 किसी देश की जनसंख्या में पहले वर्ष में 8% की वृद्धि होती है, दूसरे वर्ष में 10% की कमी होती है और तीसरे वर्ष में फिर से 6% की वृद्धि होती है। यदि वर्तमान जनसंख्या 6 करोड़ है, तो 3 वर्ष बाद जनसंख्या वृद्धि ज्ञात कीजिए।

- Ans
- 1. 18,99,500
 - 2. 20,35,000
 - 3. 18,19,200
 - 4. 19,19,200

Question ID : 26433075118
Status : Answered
Chosen Option : 3

Q.7 यदि किसी शंकाकार पात्र की त्रिज्या 4 cm और आयतन $16\pi \text{ cm}^3$ है, तो उसका वक्रपृष्ठीय क्षेत्रफल है।

- Ans
- 1. $16\pi \text{ cm}^2$
 - 2. $20\pi \text{ cm}^2$
 - 3. $4\pi \text{ cm}^2$
 - 4. $12\pi \text{ cm}^2$

Question ID : 26433073048
Status : Answered
Chosen Option : 2

Q.8 एक महिला अपनी कुल आय का 20 प्रतिशत मकान किराए पर और शेष राशि का 75 प्रतिशत घरेलू सामान पर खर्च करती है। यदि वह ₹600 बचाती है, तो उसकी आय क्या है?

- Ans
- 1. ₹3,000
 - 2. ₹1500
 - 3. ₹4,000
 - 4. ₹2,000

Question ID : 26433079853
Status : Answered
Chosen Option : 1

Q.9 अनिल और बबलू दिए गए कार्य को 50 दिनों में कर सकते हैं, बबलू और कैडी उसी कार्य को 60 दिनों में कर सकते हैं, और अनिल, बबलू और कैडी इसे 30 दिनों में पूरा कर सकते हैं। बबलू द्वारा कुल कार्य को पूरा करने के लिए आवश्यक दिनों की संख्या ज्ञात करें।

- Ans
- 1. 400 दिन
 - 2. 550 दिन
 - 3. 450 दिन
 - 4. 300 दिन

Question ID : 264330116871
Status : Answered
Chosen Option : 4

Q.10

यदि $\frac{a}{6} = \frac{b}{10} = \frac{c}{4}$ है, तो $\frac{a+b+c}{a}$ किसके बराबर है?

Ans

✗ 1. $\frac{20}{3}$

✗ 2. 4

✗ 3. 2

✓ 4. $\frac{10}{3}$

Question ID : 26433075813

Status : Answered

Chosen Option : 4

Q.11 T, स्थान A से B, जो 50 km की दूरी पर स्थित हैं, के बीच की आधी दूरी 20 मिनट में तय करता है। दूसरे आधे भाग के दौरान, उसकी चाल (km/h में) कितनी होनी चाहिए, ताकि A से B तक उसकी औसत चाल 80 km/h हो?

Ans

✗ 1. 57.8

✗ 2. 87.5

✗ 3. 75.8

✓ 4. 85.7

Question ID : 26433071260

Status : Answered

Chosen Option : 1

Q.12 A और B अकेले एक काम को पूरा करने में क्रमशः 4 और 6 घंटे का समय लेते हैं। यदि वे बारी-बारी से एक-एक घंटे काम करते हैं, पहले A से शुरू करते हैं, तो उन्हें काम पूरा करने में कितना समय लगेगा?

Ans

✗ 1. $\frac{17}{3}$ घंटे

✗ 2. $\frac{13}{3}$ घंटे

✗ 3. $\frac{11}{3}$ घंटे

✓ 4. $\frac{14}{3}$ घंटे

Question ID : 26433076110

Status : Answered

Chosen Option : 4

Q.13 50 फल बेचने पर, एक फल विक्रेता को 10 फलों का विक्रय मूल्य प्राप्त होता है। लाभ प्रतिशत ज्ञात कीजिए।

- Ans
- 1. 32%
 - 2. 30%
 - 3. 28%
 - 4. 25%

Question ID : 26433074277
Status : Answered
Chosen Option : 4

Q.14 A ने Rs. 6,00,000 में 150 ग्राम सोना खरीदा और 6% मेकिंग चार्ज दिया। 6% लाभ प्राप्त करने के लिए प्रति 10 ग्राम विक्रय मूल्य क्या होना चाहिए?

- Ans
- 1. Rs.44,494
 - 2. Rs.44,944
 - 3. Rs.44,449
 - 4. Rs.49,444

Question ID : 26433071254
Status : Answered
Chosen Option : 2

Q.15 2 संख्याओं का गुणनफल 1890 है और संख्याओं में 3 का अंतर है। संख्याओं का लघुत्तम समापवर्त्य ज्ञात करें।

- Ans
- 1. 450
 - 2. 540
 - 3. 630
 - 4. 720

Question ID : 264330116630
Status : Answered
Chosen Option : 3

Q.16 यदि ब्याज अर्धवार्षिक रूप से चक्रवृद्धि किया जाता है, तो Rs.1,000 पर एक वर्ष के लिए 20% प्रति वर्ष की दर से चक्रवृद्धि ब्याज ज्ञात कीजिए।

- Ans
- 1. Rs.209
 - 2. Rs.211
 - 3. Rs.208
 - 4. Rs.210

Question ID : 26433082980
Status : Answered
Chosen Option : 4

Q.17 यदि $2P = 3Q = 5R$ और $P + Q + R = 6200$, तो P और R के बीच का अंतर _____ है।

- Ans
- 1. 1200
 - 2. 3000
 - 3. 1800
 - 4. 2000

Question ID : 26433075491
Status : Answered
Chosen Option : 3

Q.18 3^{27} को 26 से भाग देने पर शेषफल क्या होगा?

- Ans
- 1. 3
 - 2. 0
 - 3. 1
 - 4. 2

Question ID : 26433080214
Status : Answered
Chosen Option : 3

Q.19 किसी उत्पाद का अंकित मूल्य 1000 रुपए है। यदि इसे 7 प्रतिशत छूट पर बेचा जाता है और डीलर 50 प्रतिशत लाभ अर्जित करता है, तो उत्पाद का लागत मूल्य क्या है?

- Ans
- 1. 840 रुपए
 - 2. 930 रुपए
 - 3. 720 रुपए
 - 4. 620 रुपए

Question ID : 264330116756
Status : Answered
Chosen Option : 4

Q.20 एक विमान किसी मैदान के चारों ओर उसकी चार भुजाओं के संलग्न 150 km/h, 300 km/h, 450 km/h और 600 km/h की चाल से उड़ता है। मैदान के चारों ओर घूमते हुए विमान की औसत चाल ज्ञात कीजिए।

- Ans
- 1. 288 km/h
 - 2. 228 km/h
 - 3. 350 km/h
 - 4. 225 km/h

Question ID : 26433073035
Status : Answered
Chosen Option : 3

Q.1 Select the most appropriate ANTONYM of the word given in brackets to fill in the blank.

Those who have _____ (humility) will definitely fall down.

- Ans
- 1. disrespect
 - 2. weakness
 - 3. pride
 - 4. veracity

Question ID : 26433070458
Status : Not Answered
Chosen Option : --

Q.2 Select the most appropriate synonym of the given word.

Early

- Ans
- 1. Complex
 - 2. Late
 - 3. Tardy
 - 4. Beforehand

Question ID : 26433088927
Status : Not Answered
Chosen Option : --

Q.3 Select the most appropriate synonym of the given word.

Obstruct

- Ans
- 1. Magnify
 - 2. Separate
 - 3. Obey
 - 4. Block

Question ID : 26433073464
Status : Not Answered
Chosen Option : --

Q.4 Select the most appropriate option to fill in the blank.

Arun has experienced severe mental and emotional turmoil, as well as interpersonal _____ at times.

- Ans
- 1. symptoms
 - 2. dizziness
 - 3. fatigue
 - 4. numbness

Question ID : 26433073618
Status : Not Answered
Chosen Option : --

Q.5 Select the most appropriate option that can substitute the underlined segment in the given sentence.

I was very much surprised to see Mariam at the party.

- Ans
- 1. stalked
 - 2. astonished
 - 3. bowled
 - 4. aghast

Question ID : 26433086461
Status : Not Answered
Chosen Option : --

Q.6 Select the most appropriate meaning of the given idiom.

Pull yourself together

- Ans
- 1. Calm down
 - 2. Brew new problems
 - 3. Transform society
 - 4. Enervate the downtrodden

Question ID : 26433073994
Status : Not Answered
Chosen Option : --

Q.7 Select the most appropriate meaning of the underlined idiom in the given sentence.

Even though his car was badly damaged in the accident, Rohan did not turn a hair.

- Ans
- 1. Demand compensation
 - 2. Change the hairstyle
 - 3. Understand anything
 - 4. To show no outward emotion

Question ID : 26433071997
Status : Not Answered
Chosen Option : --

Q.8 Parts of the following sentence have been given as options. Select the option that contains an error.

Dad, will you get me a box of crayons / on your way home? Teacher told us yesterday, "You must bring / a box of crayons with you to the drawing class./ Or I will not be let you stay in the class."

- Ans
- 1. on your way home? Teacher said yesterday, "You must bring
 - 2. Or I will not be let you stay in the class".
 - 3. a box of crayons with you to the drawing class.
 - 4. Dad, will you get me a box of crayons

Question ID : 26433099126
Status : Not Answered
Chosen Option : --

Q.9 Select the most appropriate option that can substitute the underlined segment in the given sentence. If there is no need to substitute it, select 'No substitution'.
When I was young, I can memorise lessons faster than Mohan.

- Ans
- 1. I could memorise lessons faster to Mohan
 - 2. I could memorise lessons faster than Mohan
 - 3. No substitution
 - 4. I can memorise lessons faster to Mohan

Question ID : 26433093074
Status : Not Answered
Chosen Option : --

Q.10 Select the most appropriate ANTONYM of the given word.

Flatter

- Ans
- 1. Insult
 - 2. Adulate
 - 3. Cajole
 - 4. Soil

Question ID : 26433072213
Status : Not Answered
Chosen Option : --

Q.11 Select the most appropriate ANTONYM of the word given in brackets to fill in the blank.

Watching the singer perform live at the concert _____ (alert) the audience for a moment.

- Ans
- 1. called
 - 2. summoned
 - 3. distracted
 - 4. shunned

Question ID : 26433092930
Status : Not Answered
Chosen Option : --

Q.12 Select the INCORRECTLY spelt word.

- Ans
- 1. Perceive
 - 2. Mischief
 - 3. Acheive
 - 4. Receive

Question ID : 26433072364
Status : Not Answered
Chosen Option : --

Q.13 Select the INCORRECTLY spelt word.

- Ans 1. Quotable
 2. Volunter
 3. Raisin
 4. Pamphlet

Question ID : 26433073735
Status : Not Answered
Chosen Option : --

Q.14 Select the most appropriate option to fill in the blanks and make the sentence meaningful.

I taught my son the _____ way to tie a _____.

- Ans 1. write; not
 2. write; knot
 3. right; not
 4. right; knot

Question ID : 26433092098
Status : Not Answered
Chosen Option : --

Q.15 Select the most appropriate ANTONYM of the given word.

Encircle

- Ans 1. Embrace
 2. Entire
 3. Exclude
 4. Entice

Question ID : 26433072207
Status : Not Answered
Chosen Option : --

Comprehension:

In the following passage, some words have been deleted. Read the passage carefully and select the most appropriate option to fill in each blank.

Advertising (1) _____ initially meant to make people aware of the goods available in the market. It was as simple as announcing what you have in your store or the services you offer on your (2) _____. Over the years, advertising has evolved into a major industry that goes beyond informing, persuading and influencing. It is a form of brainwashing consumers. Advertising has become a type of culture with ardent followers. In the process, it attracts enviable attention from manufacturers and service providers who fancy an (3) _____ over their competitors. Unfortunately, in keeping with the ever-increasing demands of the manufacturers, the advertisers have resulted in creating unnecessary wants and (4) _____ consumption in most of us. This is a craving for harmful products that we are better off without. It (5) _____ on our minds rendering us completely irrational. The billboards (hoardings), television and radio advertisements target us from a very early age, forming our view of the world as we grow into adults. The buzzwords in advertising are, 'you are cool and sophisticated' if you use this or that product.

SubQuestion No : 16

Q.16 Select the most appropriate option to fill in blank number 1.

- Ans
- 1. will
 - 2. is
 - 3. are
 - 4. was

Question ID : 26433072023

Status : Not Answered

Chosen Option : --

Comprehension:

In the following passage, some words have been deleted. Read the passage carefully and select the most appropriate option to fill in each blank.

Advertising (1) _____ initially meant to make people aware of the goods available in the market. It was as simple as announcing what you have in your store or the services you offer on your (2) _____. Over the years, advertising has evolved into a major industry that goes beyond informing, persuading and influencing. It is a form of brainwashing consumers. Advertising has become a type of culture with ardent followers. In the process, it attracts enviable attention from manufacturers and service providers who fancy an (3) _____ over their competitors. Unfortunately, in keeping with the ever-increasing demands of the manufacturers, the advertisers have resulted in creating unnecessary wants and (4) _____ consumption in most of us. This is a craving for harmful products that we are better off without. It (5) _____ on our minds rendering us completely irrational. The billboards (hoardings), television and radio advertisements target us from a very early age, forming our view of the world as we grow into adults. The buzzwords in advertising are, 'you are cool and sophisticated' if you use this or that product.

SubQuestion No : 17

Q.17 Select the most appropriate option to fill in blank number 2.

- Ans
- 1. premises
 - 2. abode
 - 3. places
 - 4. estate

Question ID : 26433072024

Status : Not Answered

Chosen Option : --

Comprehension:

In the following passage, some words have been deleted. Read the passage carefully and select the most appropriate option to fill in each blank.

Advertising (1) _____ initially meant to make people aware of the goods available in the market. It was as simple as announcing what you have in your store or the services you offer on your (2) _____. Over the years, advertising has evolved into a major industry that goes beyond informing, persuading and influencing. It is a form of brainwashing consumers. Advertising has become a type of culture with ardent followers. In the process, it attracts enviable attention from manufacturers and service providers who fancy an (3) _____ over their competitors. Unfortunately, in keeping with the ever-increasing demands of the manufacturers, the advertisers have resulted in creating unnecessary wants and (4) _____ consumption in most of us. This is a craving for harmful products that we are better off without. It (5) _____ on our minds rendering us completely irrational. The billboards (hoardings), television and radio advertisements target us from a very early age, forming our view of the world as we grow into adults. The buzzwords in advertising are, 'you are cool and sophisticated' if you use this or that product.

SubQuestion No : 18

Q.18 Select the most appropriate option to fill in blank number 3.

- Ans
- 1. mastery
 - 2. authority
 - 3. empire
 - 4. edge

Question ID : 26433072025

Status : Not Answered

Chosen Option : --

Comprehension:

In the following passage, some words have been deleted. Read the passage carefully and select the most appropriate option to fill in each blank.

Advertising (1) _____ initially meant to make people aware of the goods available in the market. It was as simple as announcing what you have in your store or the services you offer on your (2) _____. Over the years, advertising has evolved into a major industry that goes beyond informing, persuading and influencing. It is a form of brainwashing consumers. Advertising has become a type of culture with ardent followers. In the process, it attracts enviable attention from manufacturers and service providers who fancy an (3) _____ over their competitors. Unfortunately, in keeping with the ever-increasing demands of the manufacturers, the advertisers have resulted in creating unnecessary wants and (4) _____ consumption in most of us. This is a craving for harmful products that we are better off without. It (5) _____ on our minds rendering us completely irrational. The billboards (hoardings), television and radio advertisements target us from a very early age, forming our view of the world as we grow into adults. The buzzwords in advertising are, 'you are cool and sophisticated' if you use this or that product.

SubQuestion No : 19

Q.19 Select the most appropriate option to fill in blank number 4.

- Ans
- 1. redundant
 - 2. ample
 - 3. excess
 - 4. unneeded

Question ID : 26433072026

Status : Not Answered

Chosen Option : --

Comprehension:

In the following passage, some words have been deleted. Read the passage carefully and select the most appropriate option to fill in each blank.

Advertising (1) _____ initially meant to make people aware of the goods available in the market. It was as simple as announcing what you have in your store or the services you offer on your (2) _____. Over the years, advertising has evolved into a major industry that goes beyond informing, persuading and influencing. It is a form of brainwashing consumers. Advertising has become a type of culture with ardent followers. In the process, it attracts enviable attention from manufacturers and service providers who fancy an (3) _____ over their competitors. Unfortunately, in keeping with the ever-increasing demands of the manufacturers, the advertisers have resulted in creating unnecessary wants and (4) _____ consumption in most of us. This is a craving for harmful products that we are better off without. It (5) _____ on our minds rendering us completely irrational. The billboards (hoardings), television and radio advertisements target us from a very early age, forming our view of the world as we grow into adults. The buzzwords in advertising are, 'you are cool and sophisticated' if you use this or that product.

SubQuestion No : 20

Q.20 Select the most appropriate option to fill in blank number 5.

- Ans
- 1. assassinates
 - 2. sacrifices
 - 3. victimises
 - 4. preys

Question ID : 26433072027

Status : Not Answered

Chosen Option : --

Section : Part-D-Hindi

Q.1 'मुनाफ़ा' शब्द का विलोम क्या है?

- Ans
- 1. नफ़ा
 - 2. लाभ
 - 3. नुक़सान
 - 4. फ़ायदा

Question ID : 26433067092

Status : Answered

Chosen Option : 3

Q.2 निम्नलिखित विकल्पों में से दिए गए वाक्यांश के लिए उपयुक्त शब्द चुनें।
भयभीत करने वाला

- Ans
- 1. त्रिक
 - 2. त्रासक
 - 3. त्रासद
 - 4. त्रिकांडी

Question ID : 26433069994

Status : Answered

Chosen Option : 3

Q.3 'पिताजी ने मिठाई लावेंगे।' उपरोक्त वाक्य में त्रुटि पहचानकर वाक्य शुद्ध कीजिए।

- Ans
- 1. पिताजी ने मिठाई लाएँगे।
 - 2. पिताजी मिठाई लाएँगे।
 - 3. पिताजी ने मिठाई लाए।
 - 4. पिताजी मिठाइयाँ लावेंगे।

Question ID : 26433063045
Status : Answered
Chosen Option : 2

Q.4 'जिसका जन्म पहले हुआ हो' वाक्यांश के लिए उचित शब्द बताइए।

- Ans
- 1. प्रथम
 - 2. अग्रज
 - 3. अनुज
 - 4. भ्राता

Question ID : 26433065903
Status : Answered
Chosen Option : 2

Q.5 निम्नलिखित शब्दों में से कौन सा शब्द अनेकार्थी शब्द है?

- Ans
- 1. गाय
 - 2. हरिण
 - 3. बंदर
 - 4. भैंस

Question ID : 26433091316
Status : Answered
Chosen Option : 2

Q.6 'राजा महेंद्र ने हाथी पर सवार होकर नगर भ्रमण किया।' निम्नलिखित में से कौन सा शब्द उपरोक्त वाक्य में प्रयुक्त 'हाथी' शब्द का पर्यायवाची नहीं है?

- Ans
- 1. करी
 - 2. सारंग
 - 3. गज
 - 4. कुंजर

Question ID : 26433069738
Status : Answered
Chosen Option : 4

Q.7 'दंग रह जाना' मुहावरे का क्या अर्थ है?

- Ans
- 1. बहुत सताना
 - 2. बहुत खुश होना
 - 3. बहुत हैरान होना
 - 4. बहुत परेशान होना

Question ID : 26433066806
Status : Answered
Chosen Option : 3

Q.8 निम्नलिखित में से अशुद्ध वाक्य कौन-सा है?

- Ans
- 1. सुनैना आज घर आ रही है।
 - 2. हम भी धूप और पानी में खड़े हो सकते हैं।
 - 3. साहित्य का आधार जीवन है।
 - 4. बाघ और बकरी एक घाट पर पानी पीती हैं।

Question ID : 26433066991
Status : Answered
Chosen Option : 4

Q.9 निम्न वाक्य में रेखांकित अंश के स्थान पर आने वाले सबसे उपयुक्त विकल्प का चयन कीजिए।
प्रेम करना तलवार की नोक पर चलना है।

- Ans
- 1. धार
 - 2. ऊपर
 - 3. नाक
 - 4. किनारे

Question ID : 26433066869
Status : Answered
Chosen Option : 1

Q.10 'बोलने वाला' वाक्यांश के लिए सार्थक शब्द है-

- Ans
- 1. वाणी
 - 2. वक्ता
 - 3. विचारक
 - 4. यायावर

Question ID : 26433062225
Status : Answered
Chosen Option : 2

Q.11 निम्नलिखित वाक्य में रेखांकित एकार्थी शब्दों के उपयुक्त अर्थ बताएं।
शमशेर बहुत ही 'विदुर' व्यक्ति हैं, अफसोस कि वे 'विधुर' हैं।

- Ans
- 1. सन्यासी- पंडित
 - 2. जिसकी पत्नी मर गई हो- पंडित
 - 3. ज्ञानी- जिसकी पत्नी मर गई हो
 - 4. ज्ञानी- अज्ञानी

Question ID : 26433091330
Status : Answered
Chosen Option : 3

Q.12 निम्न वाक्य में त्रुटि पहचानकर वाक्य शुद्ध कीजिए।
'मोहन को मिलो और उससे यह बात बताओ।'

- Ans
- 1. मोहन को मिलकर बात बताओ।
 - 2. मोहन से मिलो और उसे यह बात बताओ।
 - 3. मोहन ने मिलकर बात बोली।
 - 4. मोहन से मिलिए और उनको यह बताओ।

Question ID : 26433063036
Status : Answered
Chosen Option : 2

Q.13 'गंगा' के लिए 'मंदाकिनी' शब्द का प्रयोग होता है। इसके बदले में और क्या शब्द हो सकता है?

- Ans
- 1. सलिल
 - 2. तरंगिनी
 - 3. देवनदी
 - 4. कलानिधि

Question ID : 26433062688
Status : Answered
Chosen Option : 3

Q.14 निम्नलिखित मुहावरे के लिए उपयुक्त सार्थक शब्द क्या होगा?
न जाने ऊंट किस करवट बैठेगा

- Ans
- 1. विश्वास
 - 2. निराश होना
 - 3. बैठना
 - 4. अनिश्चितता

Question ID : 26433065773
Status : Answered
Chosen Option : 4

Q.15 निम्नलिखित में से शुद्ध वर्तनी वाला शब्द कौन-सा है?

- Ans
- 1. अभिनेट
 - 2. अभीनेता
 - 3. अभिनेता
 - 4. अभीनेत्रा

Question ID : 26433066748

Status : Answered

Chosen Option : 3

Comprehension:

निम्नलिखित गद्यांश में कुछ शब्दों को हटा दिया गया है। दिए गए विकल्पों की सहायता से रिक्त स्थानों की पूर्ति कीजिए। प्रत्येक संख्या के लिए सबसे उपयुक्त विकल्प का चयन कीजिए। मानव जब जोर लगाता है, पत्थर पानी बन जाता है। मनुष्य के पास इतनी 1. _____ है कि वह सभी कुछ कर सकता है। इसी भरोसे पर वह अपना और अपने 2. _____ का लालन-पालन करता है। समाज में छोटे-बड़े, निर्धन-धनी का होना 3. _____ है। समाज में धनवान का आदर होता है जबकि मज़दूर को 4. _____ समझा जाता है। कड़ी मेहनत के बावजूद उसे वह आदर नहीं मिलता जो एक 5. _____ को मिलना चाहिए।

SubQuestion No : 16

Q.16 रिक्त स्थान 1 की पूर्ति के लिए सबसे उपयुक्त विकल्प का चयन कीजिए।

- Ans
- 1. शक्ति
 - 2. आदर
 - 3. विषय
 - 4. कार्य

Question ID : 264330110975

Status : Answered

Chosen Option : 1

Comprehension:

निम्नलिखित गद्यांश में कुछ शब्दों को हटा दिया गया है। दिए गए विकल्पों की सहायता से रिक्त स्थानों की पूर्ति कीजिए। प्रत्येक संख्या के लिए सबसे उपयुक्त विकल्प का चयन कीजिए। मानव जब जोर लगाता है, पत्थर पानी बन जाता है। मनुष्य के पास इतनी 1. _____ है कि वह सभी कुछ कर सकता है। इसी भरोसे पर वह अपना और अपने 2. _____ का लालन-पालन करता है। समाज में छोटे-बड़े, निर्धन-धनी का होना 3. _____ है। समाज में धनवान का आदर होता है जबकि मज़दूर को 4. _____ समझा जाता है। कड़ी मेहनत के बावजूद उसे वह आदर नहीं मिलता जो एक 5. _____ को मिलना चाहिए।

SubQuestion No : 17

Q.17 रिक्त स्थान 2 की पूर्ति के लिए सबसे उपयुक्त विकल्प का चयन कीजिए।

- Ans
- 1. पड़ोसी
 - 2. घर
 - 3. आपका
 - 4. परिवार

Question ID : 264330110976

Status : Answered

Chosen Option : 4

Comprehension:

निम्नलिखित गद्यांश में कुछ शब्दों को हटा दिया गया है। दिए गए विकल्पों की सहायता से रिक्त स्थानों की पूर्ति कीजिए। प्रत्येक संख्या के लिए सबसे उपयुक्त विकल्प का चयन कीजिए।
मानव जब जोर लगाता है, पत्थर पानी बन जाता है। मनुष्य के पास इतनी 1. _____ है कि वह सभी कुछ कर सकता है। इसी भरोसे पर वह अपना और अपने 2. _____ का लालन-पालन करता है। समाज में छोटे-बड़े, निर्धन-धनी का होना 3. _____ है। समाज में धनवान का आदर होता है जबकि मज़दूर को 4. _____ समझा जाता है। कड़ी मेहनत के बावजूद उसे वह आदर नहीं मिलता जो एक 5. _____ को मिलना चाहिए।

SubQuestion No : 18

Q.18 रिक्त स्थान 3 की पूर्ति के लिए सबसे उपयुक्त विकल्प का चयन कीजिए।

- Ans
- 1. ज़रूरी
 - 2. अनावश्यक
 - 3. अकथनीय
 - 4. स्वाभाविक

Question ID : 264330110977

Status : Answered

Chosen Option : 4

Comprehension:

निम्नलिखित गद्यांश में कुछ शब्दों को हटा दिया गया है। दिए गए विकल्पों की सहायता से रिक्त स्थानों की पूर्ति कीजिए। प्रत्येक संख्या के लिए सबसे उपयुक्त विकल्प का चयन कीजिए।
मानव जब जोर लगाता है, पत्थर पानी बन जाता है। मनुष्य के पास इतनी 1. _____ है कि वह सभी कुछ कर सकता है। इसी भरोसे पर वह अपना और अपने 2. _____ का लालन-पालन करता है। समाज में छोटे-बड़े, निर्धन-धनी का होना 3. _____ है। समाज में धनवान का आदर होता है जबकि मज़दूर को 4. _____ समझा जाता है। कड़ी मेहनत के बावजूद उसे वह आदर नहीं मिलता जो एक 5. _____ को मिलना चाहिए।

SubQuestion No : 19

Q.19 रिक्त स्थान 4 की पूर्ति के लिए सबसे उपयुक्त विकल्प का चयन कीजिए।

- Ans
- 1. तुच्छ
 - 2. सम्मान
 - 3. प्रथम
 - 4. सही

Question ID : 264330110978

Status : Answered

Chosen Option : 1

Comprehension:

निम्नलिखित गद्यांश में कुछ शब्दों को हटा दिया गया है। दिए गए विकल्पों की सहायता से रिक्त स्थानों की पूर्ति कीजिए। प्रत्येक संख्या के लिए सबसे उपयुक्त विकल्प का चयन कीजिए।
मानव जब जोर लगाता है, पत्थर पानी बन जाता है। मनुष्य के पास इतनी 1. _____ है कि वह सभी कुछ कर सकता है। इसी भरोसे पर वह अपना और अपने 2. _____ का लालन-पालन करता है। समाज में छोटे-बड़े, निर्धन-धनी का होना 3. _____ है। समाज में धनवान का आदर होता है जबकि मज़दूर को 4. _____ समझा जाता है। कड़ी मेहनत के बावजूद उसे वह आदर नहीं मिलता जो एक 5. _____ को मिलना चाहिए।

SubQuestion No : 20

Q.20 रिक्त स्थान 5 की पूर्ति के लिए सबसे उपयुक्त विकल्प का चयन कीजिए।

- Ans
- 1. बच्चों
 - 2. परिवार
 - 3. मनुष्य
 - 4. पड़ोसी

Question ID : 264330110979

Status : Answered

Chosen Option : 3

KD Job Updates

Constable GD in CAPFs SSF Rifleman GD in Assam Rifles and Sepoy in NCB Examination 2022

Roll Number	KD Job Updates
Candidate Name	KD Job Updates
Venue Name	iON DIGITAL ZONE iDZ 2 WADI MIDC
Exam Date	01/02/2023
Exam Time	9:00 AM - 10:00 AM
Subject	Constable GD Examination 2022

Section : Part-A-General Intelligence and Reasoning

Q.1 एक निश्चित कूट भाषा में 'MARINE' को '100' और 'NORMAL' को '126' के रूप में कूटबद्ध किया जाता है। उसी भाषा में 'REALM' को किस प्रकार कूटबद्ध किया जाएगा?

- Ans
- 1. 78
 - 2. 88
 - 3. 98
 - 4. 70

Question ID : 26433081514

Status : Answered

Chosen Option : 1

Q.2 आठ व्यक्ति, D, E, G, H, M, N, Y और Z एक सीधी पंक्ति में उत्तर की ओर मुख करके बैठे हैं। Y पंक्ति के किसी एक सिरे पर बैठा है। Y और Z के बीच केवल तीन व्यक्ति बैठे हैं। E, Z के दाईं ओर दूसरे स्थान पर बैठा है। E और D के बीच केवल तीन व्यक्ति बैठे हैं। G, D के बाईं ओर किसी एक स्थान पर बैठा है, लेकिन पंक्ति के किसी भी सिरे पर नहीं बैठा है। M, Z के ठीक बगल में नहीं बैठा है। N, H के दाईं ओर दूसरे स्थान पर बैठा है। H के बाईं ओर कितने व्यक्ति बैठे हैं?

- Ans
- 1. तीन
 - 2. दो
 - 3. एक
 - 4. कोई नहीं

Question ID : 26433092424

Status : Answered

Chosen Option : 2

Q.3 कौन-सा अक्षर-समूह दी गई श्रृंखला में प्रश्नचिह्न (?) के स्थान पर आकर श्रृंखला को पूर्ण करेगा?
DKBN, ENWS, ?, GTMC, HWHH

- Ans
- 1. RQFX
 - 2. QRFG
 - 3. FQRX
 - 4. GQFR

Question ID : 26433079424

Status : Answered

Chosen Option : 3

Q.4 उस विकल्प का चयन कीजिए जो तीसरे शब्द से उसी प्रकार संबंधित है जिस प्रकार दूसरा शब्द पहले शब्द से संबंधित है। (शब्दों को अर्थपूर्ण शब्दों के रूप में मानना है और उन्हें शब्द में अक्षरों/व्यंजनों/स्वरों की संख्या के आधार पर एक-दूसरे से संबंधित नहीं करना है।)
दोस्त : दुश्मन :: मरना : ?

- Ans
- 1. रोना
 - 2. जीवन
 - 3. अंत
 - 4. जीना

Question ID : 26433067976

Status : Answered

Chosen Option : 4

Q.5 दी गई आकृति के सही दर्पण प्रतिबिंब का चयन करें जब दर्पण नीचे दर्शाए गए अनुसार MN पर रखा जाता है।

GRO36VEt

M
N

- Ans
- 1. tEVθεORθ
 - 2. tEV6εORθ
 - 3. tEVθεORθ
 - 4. tEVθεORθ

Question ID : 26433089460

Status : Answered

Chosen Option : 3

Q.6 नीचे दिए गए समीकरण को गणितीय रूप से सही बनाने के लिए किन दो गणितीय चिन्हों को परस्पर बदलना चाहिए?
 $72 - 6 + 2 \times 216 \div 24 = 420$

- Ans
- 1. - और ÷
 - 2. - और ×
 - 3. × और ÷
 - 4. - और +

Question ID : 264330117561

Status : Answered

Chosen Option : 1

Q.7 तीन कथन दिए गए हैं, जिनके बाद तीन निष्कर्ष I, II और III दिए गए हैं। कथनों को सत्य मानते हुए, भले ही वे सामान्य रूप से ज्ञात तथ्यों से भिन्न प्रतीत होते हों, निर्धारित करें कि कौन-सा/से निष्कर्ष कथनों का तार्किक रूप से अनुसरण करता है/करते हैं।

कथन:

कुछ पेंट ब्रश हैं।

सभी ब्रश चित्रफलक हैं।

कुछ चित्रफलक टेबल हैं।

निष्कर्ष:

I. कुछ ब्रश टेबल हैं।

II. कुछ पेंट चित्रफलक हैं।

III. कुछ चित्रफलक ब्रश हैं।

- Ans
- 1. सभी निष्कर्ष अनुसरण करते हैं
 - 2. केवल निष्कर्ष III अनुसरण करता है
 - 3. केवल निष्कर्ष II और III अनुसरण करते हैं
 - 4. केवल निष्कर्ष I और III अनुसरण करते हैं

Question ID : 26433090996

Status : Answered

Chosen Option : 3

Q.8 दिए गए समीकरण को संतुलित करने के लिए विकल्पों में दिए गए किन दो चिह्नों को परस्पर बदलना होगा?

$$790 + 5 \div 58 \times 5 - 96 = 352$$

- Ans
- 1. + और ÷
 - 2. + और -
 - 3. ÷ और ×
 - 4. ÷ और -

Question ID : 26433082666

Status : Answered

Chosen Option : 1

Q.9 उस विकल्प का चयन करें, जो चौथे पद से उसी प्रकार संबंधित है, जिस प्रकार पहला पद दूसरे पद से संबंधित है और पाँचवाँ पद छठे पद से संबंधित है।

$$104 : 13 :: ? : 37 :: 168 : 21$$

- Ans
- 1. 296
 - 2. 248
 - 3. 304
 - 4. 280

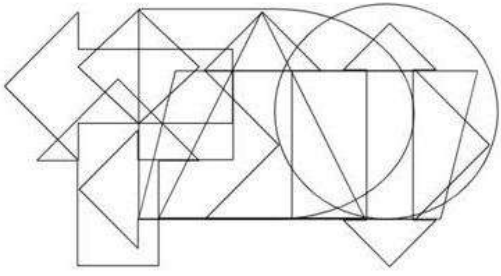
Question ID : 26433074548

Status : Answered

Chosen Option : 1

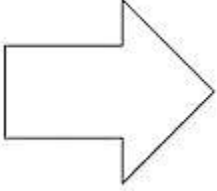
Q.10

उस विकल्प आकृति का चयन करें जो नीचे दी गई आकृति में अंतर्निहित है।
(आकृति घुमाने की अनुमति नहीं है)

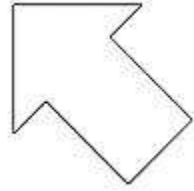


Ans


✗ 1.



✗ 2.



✓ 3.



✗ 4.



Question ID : 26433085744

Status : Answered

Chosen Option : 3

Q.11 एक निश्चित कूट भाषा में, 'DANCE' को 'AECDN' के रूप में लिखा जाता है, 'MUSIC' को 'IUCMS' के रूप में लिखा जाता है, उसी भाषा में 'SONG' को कैसे लिखा जाएगा?

Ans

✗ 1. SNGO

✗ 2. OSNG

✗ 3. GNSO

✓ 4. OGNS

Question ID : 26433069654

Status : Answered

Chosen Option : 4

Q.12 कौनसा विकल्प दी गयी शृंखला में प्रश्नचिन्ह (?) के स्थान पर आकर आकृति शृंखला को पूर्ण करेगा?



Ans

✗ 1.



✓ 2.



✗ 3.



✗ 4.



Question ID : 26433078967

Status : Answered

Chosen Option : 2

Q.13 निम्नलिखित में से कौन सा विकल्प दी गई शृंखला में प्रश्न चिह्न (?) को प्रतिस्थापित करेगा?
103, 110, 105, ?, 107, 114, 109

Ans ✗ 1. 111

✗ 2. 110

✓ 3. 112

✗ 4. 108

Question ID : 26433089445

Status : Answered

Chosen Option : 3

Q.14 निम्न में से कौन सी संख्या दी गई श्रृंखला में प्रश्नचिह्न (?) के स्थान पर आएगी?
2880, 480, 96, ?, 8, 4

- Ans 1. 24
 2. 46
 3. 56
 4. 76

Question ID : 26433076748
Status : Answered
Chosen Option : 1

Q.15 छः दोस्त - M, N, O, P, Q और R दक्षिण की ओर मुख करके एक पंक्ति में बैठे हैं। N, P और Q के ठीक मध्य में है। O, R के बाईं ओर ठीक बगल में है। M, P के दाईं ओर ठीक बगल में है। यदि Q पंक्ति के बाएं सिरे पर बैठा है, तो O के बाईं ओर ठीक बगल में कौन बैठा है?

- Ans 1. N
 2. M
 3. Q
 4. P

Question ID : 26433079062
Status : Answered
Chosen Option : 2

Q.16 कौन-सा अक्षर-समूह दी गई श्रृंखला में प्रश्नचिह्न (?) के स्थान पर आकर श्रृंखला को पूर्ण करेगा?
AZME, CYOG, ?, GWSK, IVUM

- Ans 1. FXQJ
 2. FYRJ
 3. FXRJ
 4. EXQI

Question ID : 26433067939
Status : Answered
Chosen Option : 4

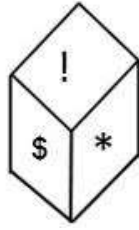
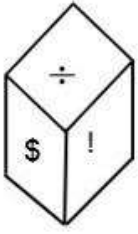
Q.17 किस विकल्प में निम्नलिखित शब्दों का वह क्रम दिया गया है, जिस क्रम में वे अंग्रेजी शब्दकोश में आते हैं?

- 1 pointed
2 pollen
3 populate
4 popular
5 podium

- Ans 1. 5,3,1,4,2
 2. 5,3,4,2,1
 3. 5,4,2,3,1
 4. 5,1,2,4,3

Question ID : 26433069298
Status : Answered
Chosen Option : 4

Q.18 \$, @, !, *, ∞, ÷ प्रतीकों वाले एक ही पासे की दो अलग-अलग स्थितियों को दर्शाया गया है। '÷' दर्शाने वाले फलक के विपरीत फलक पर प्रतीक ज्ञात कीजिए।



- Ans
- 1. !
 - 2. @
 - 3. *
 - 4. ∞

Question ID : 26433089512

Status : Answered

Chosen Option : 1

Q.19 उस विकल्प का चयन करें जो पाँचवें पद से उसी प्रकार संबंधित है जिस प्रकार दूसरा पद पहले पद से संबंधित है और चौथा पद तीसरे पद से संबंधित है।

QUEST : VUGWS :: REACH : JECGT :: SOLVE : ?

- Ans
- 1. UQNXG
 - 2. VONXG
 - 3. GXNQU
 - 4. GXNOV

Question ID : 26433087192

Status : Answered

Chosen Option : 3

Q.20 'P % Q' का अर्थ है 'P, Q का भाई है'।
 'P + Q' का अर्थ है 'P, Q की बेटी है'।
 'P = Q' का अर्थ है 'P, Q का बेटा है'।
 'P # Q' का अर्थ है 'P, Q की पत्नी है'।
 यदि $L + M \% N = O \# P$ है, तो P, L से किस प्रकार संबंधित है?

- Ans
- 1. मामा
 - 2. दादा
 - 3. जीजा
 - 4. ताऊ/चाचा

Question ID : 26433087004

Status : Answered

Chosen Option : 2

Q.1 1873 में, उन्होंने 'सत्य-शोधक समाज' की स्थापना की। यहां 'उन्होंने' किसे कहा जा रहा है?

- Ans
- 1. जोतिबा फुले
 - 2. गोविंदराव फुले
 - 3. गोपाल हरि देशमुख
 - 4. सावित्रीबाई फुले

Question ID : 264330115725
Status : Answered
Chosen Option : 1

Q.2 देवप्रयाग में भागीरथी _____ से मिलती है।

- Ans
- 1. कोसी
 - 2. यमुना
 - 3. अलकनंदा
 - 4. धाधरा

Question ID : 26433087891
Status : Answered
Chosen Option : 3

Q.3 भारत में अंतर्देशीय जलमार्गों के विकास, रखरखाव और प्रबंधन की देखभाल कौन करता है?

- Ans
- 1. भारतीय इस्पात प्राधिकरण
 - 2. भारतीय विमानपत्तन प्राधिकरण
 - 3. भारतीय अंतर्देशीय जलमार्ग प्राधिकरण
 - 4. भारतीय राष्ट्रीय राजमार्ग प्राधिकरण

Question ID : 264330115595
Status : Answered
Chosen Option : 3

Q.4 'अर्थशास्त्र' किसके द्वारा लिखा गया था?

- Ans
- 1. वासुदेव
 - 2. कौटिल्य
 - 3. मेगस्थनीज
 - 4. विशाखदत्त

Question ID : 26433090572
Status : Answered
Chosen Option : 2

Q.5 किस खेल का मैदान प्रायः अंडाकार होता है जिसके बीच में एक आयताकार क्षेत्र होता है, जो 22 गज (20.12 मीटर) लंबा और 10 फीट (3.04 मीटर) चौड़ा होता है?

- Ans
- 1. क्रिकेट
 - 2. लॉन टेनिस
 - 3. वॉलीबॉल
 - 4. बास्केटबॉल

Question ID : 26433089937
Status : Answered
Chosen Option : 1

Q.6 भारत के संविधान का निम्नलिखित में से कौन सा अनुच्छेद 'कुछ दशाओं में गिरफ्तारी और निरोध से संरक्षण' प्रदान करता है?

- Ans
- 1. अनुच्छेद 35
 - 2. अनुच्छेद 22
 - 3. अनुच्छेद 47
 - 4. अनुच्छेद 10

Question ID : 26433086806
Status : Answered
Chosen Option : 2

Q.7 राजस्थान की विवाहित महिलाओं द्वारा मनाया जाने वाला गणगौर का वार्षिक त्यौहार, हिंदू माह _____ में मनाया जाता है।

- Ans
- 1. कार्तिक
 - 2. अश्विन
 - 3. फाल्गुन
 - 4. चैत्र

Question ID : 264330115105
Status : Answered
Chosen Option : 2

Q.8 2020 ग्रीष्मकालीन पैरालंपिक में किस देश ने सर्वाधिक स्वर्ण पदक जीता?

- Ans
- 1. चीन
 - 2. संयुक्त राज्य अमेरिका
 - 3. ग्रेट ब्रिटेन
 - 4. रूस

Question ID : 264330115924
Status : Marked For Review
Chosen Option : 2

Q.9 निम्नलिखित में से कौन सा अप्रत्यक्ष कर का उदाहरण है ?

- Ans
- 1. फिर्मों के लिए निगम कर
 - 2. उपहार कर
 - 3. जी. एस. टी.
 - 4. संपत्ति कर

Question ID : 26433054802

Status : Answered

Chosen Option : 3

Q.10 वैयक्तिक प्रयोज्य आय, वह धन है जो घरेलू उपभोग, _____ और आयकर के लेखांकन के बाद खर्च के लिए उपलब्ध होता है।

- Ans
- 1. बचत
 - 2. माल और सेवा कर
 - 3. बिक्री कर
 - 4. ब्याज

Question ID : 264330115348

Status : Not Attempted and Marked For Review

Chosen Option : --

Q.11 यदि चार मजदूरों की जरूरत है और सात काम कर रहे हैं तो तीन अतिरिक्त मजदूर किस तरह की बेरोजगारी से पीड़ित हैं?

- Ans
- 1. चक्रीय बेरोजगारी
 - 2. प्रच्छन्न बेरोजगारी
 - 3. संरचनात्मक बेरोजगारी
 - 4. संघर्षजनित बेरोजगारी

Question ID : 264330116091

Status : Answered

Chosen Option : 2

Q.12 चूना-पत्थर, खड़िया एवं संगमरमर _____ के विविध रूप हैं।

- Ans
- 1. कैल्शियम फॉस्फेट
 - 2. कैल्शियम ऑक्साइड
 - 3. कैल्शियम हाइड्रोऑक्साइड
 - 4. कैल्शियम कार्बोनेट

Question ID : 264330115164

Status : Answered

Chosen Option : 4

Q.13 सीवी चन्द्रशेखर को _____ में उनके योगदान के लिए पद्म भूषण से सम्मानित किया गया था।

- Ans
- 1. मणिपुरी
 - 2. कथक
 - 3. कुचिपुड़ी
 - 4. भरतनाट्यम

Question ID : 264330115893

Status : Not Attempted and Marked For Review

Chosen Option : --

Q.14 क्षारक लाल लिटमस पत्र को _____ कर देता है।

- Ans
- 1. बैंगनी
 - 2. गुलाबी
 - 3. नीला
 - 4. पीला

Question ID : 264330115264

Status : Answered

Chosen Option : 3

Q.15 निम्न में से क्या औद्योगिक विकास की हानि है?

- Ans
- 1. प्रदूषण
 - 2. उच्च राजस्व संग्रह
 - 3. सतत विकास
 - 4. आर्थिक विकास

Question ID : 264330115393

Status : Answered

Chosen Option : 1

Q.16 निम्नलिखित राजनेताओं में से कौन जुलाई 2022 में भारत के राष्ट्रपति बने?

- Ans
- 1. रामनाथ कोविंद
 - 2. द्रौपदी मुर्मू
 - 3. जयराम ठाकुर
 - 4. स्मृति ईरानी

Question ID : 264330114887

Status : Answered

Chosen Option : 2

Q.17 _____ कैबिनेट और राज्यपाल के बीच संपर्क की एकमात्र कड़ी है।

- Ans 1. मुख्यमंत्री
 2. राज्य लोक सेवा आयोग अध्यक्ष
 3. महाधिवक्ता
 4. मुख्य चुनाव आयुक्त

Question ID : 26433089186
Status : Answered
Chosen Option : 1

Q.18 30 अप्रैल, 2022 को चीफ ऑफ आर्मी स्टाफ का पदभार किसने संभाला?

- Ans 1. मनोज पांडे
 2. नितिन परांजपे
 3. विनीत जोशी
 4. मनोज मुकुंद नरवणे

Question ID : 264330115051
Status : Answered
Chosen Option : 4

Q.19 नवंबर 2022 तक की स्थिति के अनुसार, भारत में केंद्रीय सूचना और प्रसारण, और युवा कार्यक्रम और खेल मंत्री कौन हैं?

- Ans 1. अश्विनी वैष्णव
 2. अनुराग सिंह ठाकुर
 3. नारायण राणे
 4. किरण रिजिजू

Question ID : 264330114929
Status : Answered
Chosen Option : 4

Q.20 अलरमेल वल्ली निम्नलिखित में से किस शास्त्रीय नृत्य के प्रतिपादक हैं?

- Ans 1. भरतनाट्यम
 2. कथकली
 3. ओडिसी
 4. कथक

Question ID : 26433071666
Status : Not Answered
Chosen Option : --

Q.1 एक मोबाइल की कीमत में पहले क्रमिक रूप से 5%, 2% की कमी होती है और उसके बाद कीमत में क्रमिक रूप से क्रमशः 10%, 20% की वृद्धि होती है। मोबाइल की कीमत में अंतिम परिवर्तन क्या है?

Ans

✓ 1. $22\frac{223}{250}\%$

✗ 2. $22\frac{123}{250}\%$

✗ 3. $17\frac{153}{250}\%$

✗ 4. $21\frac{113}{250}\%$

Question ID : 26433076073

Status : Not Answered

Chosen Option : --

Q.2 एक पुलिस अधिकारी एक चोर का पीछा करता है जो उससे 800 m की दूरी पर है। यदि वे क्रमशः 8 km/h और 7 km/h की चाल से दौड़ते हैं, तो चोर को पकड़ने के लिए पुलिस अधिकारी को कितनी दूर तक दौड़ना होगा?

Ans ✗ 1. 4000 m

✓ 2. 6400 m

✗ 3. 5600 m

✗ 4. 4800 m

Question ID : 26433073133

Status : Answered

Chosen Option : 3

Q.3 यदि एक गोले की त्रिज्या में 5% की वृद्धि की जाती है, तो गोले के पृष्ठीय क्षेत्रफल में कितने प्रतिशत की वृद्धि होगी?

Ans ✓ 1. 10.25%

✗ 2. 25%

✗ 3. 15.25%

✗ 4. 18%

Question ID : 26433083059

Status : Not Answered

Chosen Option : --

Q.4 $\frac{5}{16}$ of $\frac{7}{8} \times 6 + 15 - 10$ का सरलीकृत मान क्या है?

- Ans
- 1. $\frac{850}{64}$
 - 2. $\frac{425}{128}$
 - 3. $\frac{425}{64}$
 - 4. $\frac{525}{64}$

Question ID : 26433081002
Status : Answered
Chosen Option : 3

Q.5 वर्तमान जन्म दर प्रति दस हजार 450 है, जबकि संगत मृत्यु दर प्रति दस हजार 120 है। प्रतिशत में जनसंख्या वृद्धि के संदर्भ में शुद्ध संवृद्धि दर ज्ञात करें।

- Ans
- 1. 3%
 - 2. 3.3%
 - 3. 2.3%
 - 4. 2%

Question ID : 26433080127
Status : Not Answered
Chosen Option : --

Q.6 एक चोर 15 m/s की चाल से दौड़ना शुरू करता है, 12 सेकंड दौड़ने के बाद एक पुलिसकर्मी उसी दिशा में 20 m/s की चाल से चोर को पकड़ने के लिए दौड़ना शुरू करता है। पुलिसकर्मी को चोर को पकड़ने के लिए कितने मीटर तक दौड़ना पड़ेगा?

- Ans
- 1. 754 m
 - 2. 720 m
 - 3. 740 m
 - 4. 744 m

Question ID : 26433075694
Status : Answered
Chosen Option : 2

Q.7 एक घंटे में, A 5 कुर्सियों पर पेंट कर सकता है और B 3 कुर्सियों पर पेंट कर सकता है। निर्धारित कीजिए कि जब वे एक साथ मिलकर काम करेंगे तो उन्हें 40 कुर्सियों को पेंट करने में कितना समय लगेगा?

- Ans
- 1. 10 घंटे
 - 2. 5 घंटे
 - 3. 12 घंटे
 - 4. 8 घंटे

Question ID : 26433071340

Status : Answered

Chosen Option : 2

Q.8 सोनी ने एक मोबाइल फोन राजू को 10% के लाभ पर बेचा, राजू ने इसे आलोक को 5% की हानि पर बेच दिया और आलोक ने इसे सोहन को 20% के लाभ पर बेच दिया। यदि सोहन ने इसे ₹ 6,270 में खरीदा, तो सोनी के लिए मोबाइल का क्रय मूल्य (₹ में) क्या था?

- Ans
- 1. ₹4,650
 - 2. ₹5,000
 - 3. ₹4,500
 - 4. ₹5,500

Question ID : 26433075546

Status : Answered

Chosen Option : 2

Q.9 यदि आप ₹2,500 में एक जैकेट खरीद रहे हों और ₹4,500 में वैसे ही दो जैकेट खरीद रहे हों, तो छूट प्रतिशत ज्ञात कीजिये। (एक जैकेट का अंकित मूल्य ₹2500 है)

- Ans
- 1. 18 प्रतिशत
 - 2. 10 प्रतिशत
 - 3. 12 प्रतिशत
 - 4. 15 प्रतिशत

Question ID : 26433080173

Status : Answered

Chosen Option : 2

Q.10 12, 25 और 18 से विभाज्य 3 अंकीय सबसे बड़ी संख्या और 4 अंकीय सबसे छोटी संख्या के बीच पूर्ण अंतर ज्ञात करें।

- Ans
- 1. 1200
 - 2. 600
 - 3. 900
 - 4. 300

Question ID : 264330116646

Status : Answered

Chosen Option : 3

Q.11 एक दुकानदार किसी वस्तु की खरीद पर निम्नलिखित तीन छूट योजनाओं की घोषणा करता है। इनमें से कौन-सी योजना ग्राहक के लिए सबसे अच्छी योजना है?

- A. 15% और 18% की दो क्रमागत छूट
- B. 6 वस्तुएँ खरीदें और 2 मुफ्त पाएँ
- C. 30% की एक एकल छूट

Ans 1. A और C दोनों योजनाएँ समान छूट प्रदान करती हैं

2. योजना A

3. योजना B

4. योजना C

Question ID : 26433075762

Status : Answered

Chosen Option : 2

Q.12 यदि 24 cm ऊँचाई वाले एक लम्ब वृत्तीय शंकु का आयतन $392\pi \text{ cm}^3$ है, तो उसका वक्र पृष्ठीय क्षेत्रफल क्या है?

Ans 1. $185\pi \text{ cm}^2$

2. $191\pi \text{ cm}^2$

3. $163\pi \text{ cm}^2$

4. $175\pi \text{ cm}^2$

Question ID : 26433076088

Status : Not Answered

Chosen Option : --

Q.13 दो व्यक्तियों A और B के भार का अनुपात क्रमशः 5 : 3 है। यदि A के भार में 5% की वृद्धि हो जाए और A तथा B का कुल भार 15% बढ़कर 92 kg हो जाए, तो B के भार में हुई प्रतिशत-वृद्धि (दशमलव के 2 स्थान तक शुद्ध) ज्ञात कीजिए।

Ans 1. 31.67 प्रतिशत

2. 36.66 प्रतिशत

3. 32.66 प्रतिशत

4. 30.66 प्रतिशत

Question ID : 26433080162

Status : Not Answered

Chosen Option : --

Q.14 क्रमशः 50 और 80 के औसत अंक वाले छात्रों की दो कक्षाओं A और B को मिलाने पर, प्राप्त औसत अंक 60 है। कक्षा A और B में छात्रों का क्रमशः अनुपात ज्ञात कीजिए।

Ans 1. 3 : 2

2. 1 : 2

3. 2 : 1

4. 2 : 3

Question ID : 26433081009

Status : Answered

Chosen Option : 3

Q.15 एक धनराशि वार्षिक रूप से चक्रवृद्धि होकर 3 वर्षों में 20% प्रतिवर्ष की दर से ₹14,112 हो जाती है। धनराशि ज्ञात कीजिए।

- Ans
- 1. ₹8,099.60
 - 2. ₹9,166.87
 - 3. ₹7,167.70
 - 4. ₹8,166.67

Question ID : 26433082722

Status : Not Answered

Chosen Option : --

Q.16 $\frac{x}{y}$ और $\frac{y}{z}$ के वर्गों का मध्यानुपाती ज्ञात करें।

- Ans
- 1. $\left(\frac{x}{z}\right)^2$
 - 2. $\left(\frac{x}{z}\right)^{3/2}$
 - 3. $\sqrt{\frac{x}{z}}$
 - 4. $\frac{x}{z}$

Question ID : 26433079938

Status : Answered

Chosen Option : 3

Q.17 3 सीटी की कीमत ₹3,300 है। 10 सीटी की कीमत (₹ में) क्या होगी?

- Ans
- 1. ₹10,000
 - 2. ₹12,000
 - 3. ₹11,000
 - 4. ₹33,000

Question ID : 26433076010

Status : Answered

Chosen Option : 3

Q.18 यदि 12 पुरुष या 9 महिलाएं किसी काम को 36 दिन में कर सकती हैं, तो 16 पुरुष और 18 महिलाएं उसी काम को पूरा करने में कितने दिन का समय लेंगी?

- Ans
- ✗ 1. $13\frac{1}{5}$
 - ✗ 2. $14\frac{3}{5}$
 - ✓ 3. $10\frac{4}{5}$
 - ✗ 4. $12\frac{4}{5}$

Question ID : 26433082929

Status : Not Answered

Chosen Option : --

Q.19 Rs.1,00,000 का एक घर A द्वारा B को 6% के लाभ पर बेचा जाता है। B घर वापस A को 3% हानि पर बेचता है। पूरे लेनदेन में A का लाभ/हानि क्या है?

- Ans
- ✗ 1. Rs.2,280 की हानि
 - ✗ 2. Rs.3,280 की हानि
 - ✗ 3. Rs.2,802 का लाभ
 - ✓ 4. Rs.2,820 का लाभ

Question ID : 26433076373

Status : Not Answered

Chosen Option : --

Q.20 एक कॉलेज में दो कोर्स होते हैं। एम. कॉम. में 500 में से 450 छात्र पास हुए, जबकि एम.ए. में 2000 छात्रों में से 1500 छात्र पास हुए। कॉलेज का संयुक्त पास प्रतिशत क्या है?

- Ans
- ✗ 1. 76.75%
 - ✗ 2. 75.5%
 - ✓ 3. 78%
 - ✗ 4. 79%

Question ID : 26433082497

Status : Not Answered

Chosen Option : --

Q.1 Select the correct idiom that can substitute the italicised group of words in the given sentence.

Prof. Ram Prasad was an environmental activist, and apparently, he became *annoying and irritating* to leather factories over the years.

- Ans
- 1. a vexed question
 - 2. a slow coach
 - 3. an uphill task
 - 4. a thorn in the flesh

Question ID : 26433084762
Status : Not Answered
Chosen Option : --

Q.2 Select the correct option to substitute the underlined segment in the given sentence. If no substitution is required, select 'No substitution'.

Slow and steady wins the race.

- Ans
- 1. will win the race
 - 2. No substitution
 - 3. had won the race
 - 4. won the race

Question ID : 26433090808
Status : Not Answered
Chosen Option : --

Q.3 Select the most appropriate synonym of the given word.

Blend

- Ans
- 1. Scatter
 - 2. Disunity
 - 3. Fusion
 - 4. Destruction

Question ID : 26433072072
Status : Not Answered
Chosen Option : --

Q.4 Select the most appropriate homonym to fill in the blank.

This nation is _____ to each of its citizens.

- Ans
- 1. fur
 - 2. fair
 - 3. fare
 - 4. feel

Question ID : 26433088790
Status : Not Answered
Chosen Option : --

Q.5 Select the most appropriate ANTONYM of the underlined word in the following sentence.

It is quite comprehensible that now young people's minds are constantly being reshaped by the media's constant meddling of certain unfathomable ideas and moral standards.

- Ans
- 1. Constantly
 - 2. Meddling
 - 3. Comprehensible
 - 4. Reshape

Question ID : 26433092863
Status : Not Answered
Chosen Option : --

Q.6 Select the most appropriate synonym for the underlined word in the given sentence.

The moral failure was the result of his lassitude.

- Ans
- 1. luxury
 - 2. derision
 - 3. indulgence
 - 4. weariness

Question ID : 26433073752
Status : Not Answered
Chosen Option : --

Q.7 Select the most appropriate synonym of the underlined word.

A leading actor has said in a new interview that nepotism does not matter, and she is the best example of that.

- Ans
- 1. unbiasedness
 - 2. objectivity
 - 3. neutrality
 - 4. favouritism

Question ID : 26433088839
Status : Not Answered
Chosen Option : --

Q.8 The following sentence has been divided into parts. One of them may contain an error. Select the part that contains the error from the given options. If you don't find any error, mark 'No error' as your answer.

The shield used by the / warrior have been one / made of strong iron.

- Ans
- 1. No error
 - 2. made of strong iron
 - 3. warrior have been one
 - 4. The shield used by the

Question ID : 26433099906
Status : Not Answered
Chosen Option : --

Q.9 Select the correct spelling of the word to fill in the blank in the given sentence.

Shyam _____ an _____ letter from his employer.

- Ans
- 1. reseived; knowledgement
 - 2. recievid; acknowledgment
 - 3. recieved; aknowlegdement
 - 4. received; acknowledgment

Question ID : 26433084767
Status : Not Answered
Chosen Option : --

Q.10 Select the most appropriate meaning of the underlined idiom that can be substituted in the following sentence.

The robber showed a clean pair of heels when the policeman came nearer.

- Ans
- 1. stole and ran away with heels
 - 2. showed how clean the heels were
 - 3. stood so as to show the heels
 - 4. ran away

Question ID : 26433072234
Status : Not Answered
Chosen Option : --

Q.11 Select the most appropriate ANTONYM of the given word.

Truth

- Ans
- 1. Reality
 - 2. Lay
 - 3. Loyalty
 - 4. Falsity

Question ID : 26433072859
Status : Not Answered
Chosen Option : --

Q.12 Select the option with the correct spelling of the underlined word in the given sentence.

They waited for him in the adjcent room.

- Ans
- 1. adgencent
 - 2. adjacent
 - 3. adjacentt
 - 4. addjacent

Question ID : 26433073610
Status : Not Answered
Chosen Option : --

Q.13 Select the most appropriate option to fill in the blank.

He seized a thief by his _____ and forced him to answer.

- Ans
- 1. colour
 - 2. caller
 - 3. choler
 - 4. collar

Question ID : 26433087942
Status : Not Answered
Chosen Option : --

Q.14 Select the most appropriate option that can substitute the underlined segment in the given sentence.

The teacher asked me to tell him what is his name?

- Ans
- 1. what he is called is.
 - 2. what the name is.
 - 3. what his name was.
 - 4. what name is he?

Question ID : 264330102392
Status : Not Answered
Chosen Option : --

Q.15 Select the most appropriate option to fill in the blank.
The child _____ not guilty of shoplifting.

- Ans
- 1. questioned
 - 2. said
 - 3. pleaded
 - 4. nagged

Question ID : 26433085599
Status : Not Answered
Chosen Option : --

Comprehension:

In the following passage, some words have been deleted. Read the passage carefully and select the most appropriate option to fill in each blank.

Transformation of a sentence means (1) _____ the words or forms of the sentence without changing (2) _____ meaning. Such changes can be in the form (3) _____ changes from negative sentences into assertive, interrogative or exclamatory sentences and vice versa (4) _____ change in narration or change in voice or changes from simple to (5) _____ or complex sentences.

SubQuestion No : 16

Q.16 Select the most appropriate option to fill in blank number 1.

- Ans
- 1. change
 - 2. of change
 - 3. to change
 - 4. changing

Question ID : 26433088564

Status : Not Answered

Chosen Option : --

Comprehension:

In the following passage, some words have been deleted. Read the passage carefully and select the most appropriate option to fill in each blank.

Transformation of a sentence means (1) _____ the words or forms of the sentence without changing (2) _____ meaning. Such changes can be in the form (3) _____ changes from negative sentences into assertive, interrogative or exclamatory sentences and vice versa (4) _____ change in narration or change in voice or changes from simple to (5) _____ or complex sentences.

SubQuestion No : 17

Q.17 Select the most appropriate option to fill in blank number 2.

- Ans
- 1. its
 - 2. her
 - 3. his
 - 4. their

Question ID : 26433088565

Status : Not Answered

Chosen Option : --

Comprehension:

In the following passage, some words have been deleted. Read the passage carefully and select the most appropriate option to fill in each blank.

Transformation of a sentence means (1) _____ the words or forms of the sentence without changing (2) _____ meaning. Such changes can be in the form (3) _____ changes from negative sentences into assertive, interrogative or exclamatory sentences and vice versa (4) _____ change in narration or change in voice or changes from simple to (5) _____ or complex sentences.

SubQuestion No : 18

Q.18 Select the most appropriate option to fill in blank number 3.

- Ans
- 1. in
 - 2. on
 - 3. at
 - 4. of

Question ID : 26433088566
Status : Not Answered
Chosen Option : --

Comprehension:

In the following passage, some words have been deleted. Read the passage carefully and select the most appropriate option to fill in each blank.

Transformation of a sentence means (1) _____ the words or forms of the sentence without changing (2) _____ meaning. Such changes can be in the form (3) _____ changes from negative sentences into assertive, interrogative or exclamatory sentences and vice versa (4) _____ change in narration or change in voice or changes from simple to (5) _____ or complex sentences.

SubQuestion No : 19

Q.19 Select the most appropriate option to fill in blank number 4.

- Ans
- 1. but
 - 2. or
 - 3. so
 - 4. yet

Question ID : 26433088567
Status : Not Answered
Chosen Option : --

Comprehension:

In the following passage, some words have been deleted. Read the passage carefully and select the most appropriate option to fill in each blank.

Transformation of a sentence means (1) _____ the words or forms of the sentence without changing (2) _____ meaning. Such changes can be in the form (3) _____ changes from negative sentences into assertive, interrogative or exclamatory sentences and vice versa (4) _____ change in narration or change in voice or changes from simple to (5) _____ or complex sentences.

SubQuestion No : 20

Q.20 Select the most appropriate option to fill in blank number 5.

- Ans
- 1. negative
 - 2. assertive
 - 3. positive
 - 4. compound

Question ID : 26433088568

Status : Not Answered

Chosen Option : --

Section : Part-D-Hindi

Q.1 'आग में _____ डालना'
उपर्युक्त मुहावरे में रिक्त स्थान की पूर्ति उचित शब्द द्वारा कीजिए।

- Ans
- 1. घी
 - 2. तेल
 - 3. नमक
 - 4. मिर्च

Question ID : 26433069689

Status : Answered

Chosen Option : 1

Q.2 निम्नलिखित वाक्यांश के लिए एक सार्थक शब्द चुनिए।
जो अस्त-व्यस्त हो

- Ans
- 1. विपर्यस्त
 - 2. विद्युत्प्रभ
 - 3. विकीर्ण
 - 4. विज्ञप्ति

Question ID : 26433062739

Status : Answered

Chosen Option : 1

Q.3 'महात्मा गांधी की साधना _____ थी।'
उपरोक्त वाक्य में 'अलौकिक' शब्द के एकार्थी शब्द से वाक्य पूर्ण कीजिए।

- Ans
- 1. अकथनीय
 - 2. असाधारण
 - 3. असहनीय
 - 4. अनुस्यूत

Question ID : 26433079241
Status : Answered
Chosen Option : 2

Q.4 निम्नलिखित में से शुद्ध वाक्य कौन सा है?

- Ans
- 1. राधा अच्छा लड़की है।
 - 2. राधा अच्छी लड़का है।
 - 3. राध अच्छ लड़की है।
 - 4. राधा अच्छी लड़की है।

Question ID : 26433080931
Status : Answered
Chosen Option : 4

Q.5 निम्नलिखित विकल्पों में से किस एक वाक्य में सर्वनाम के प्रयोग सम्बन्धी अशुद्धि है?

- Ans
- 1. माता जी ! मुझे आपकी बहुत याद आती है।
 - 2. उसके हाथ में जो कलम है, यह मेरी है।
 - 3. मैंने अपना काम कर लिया।
 - 4. पुनीत ने महेश से कहा, तुम घर चलो मैं दो घंटे बाद आऊंगा।

Question ID : 26433062975
Status : Not Attempted and Marked For Review
Chosen Option : --

Q.6 दिए गए विकल्पों में से कौन सा शब्द निम्नलिखित वाक्य में रेखांकित शब्द का पर्यायवाची नहीं है?
भारतीय जनमानस के बीच माता 'सरस्वती' संगीत कला की जननी के रूप में पूजनीय हैं।

- Ans
- 1. हंस वाहिनी
 - 2. विमला
 - 3. सहचरी
 - 4. शारदा

Question ID : 26433091339
Status : Answered
Chosen Option : 3

Q.7 'कैंसर रोग बड़ा _____ है।' इस वाक्य में रिक्त स्थान की पूर्ति शुद्ध शब्द द्वारा कीजिए।

- Ans
- 1. दुसाध्य
 - 2. दुरसाध्य
 - 3. दूसाध्य
 - 4. दुःसाध्य

Question ID : 26433080906

Status : Answered

Chosen Option : 4

Q.8 निम्न वाक्यांश के लिए उपयुक्त एक शब्द का चयन विकल्पों में से कीजिए।
'जो युद्ध में स्थिर रहता है'

- Ans
- 1. योजक
 - 2. युद्धस्थ
 - 3. युयुत्सु
 - 4. युधिष्ठिर

Question ID : 26433070092

Status : Answered

Chosen Option : 4

Q.9 निम्न वाक्य में रेखांकित शब्द के स्थान पर सर्वोचित विकल्प चुनिए।
'वह अमीर होने पर भी संतुष्ट नहीं है।'

- Ans
- 1. सुखी
 - 2. योगी
 - 3. मर्यादित
 - 4. दुःखी

Question ID : 26433084962

Status : Answered

Chosen Option : 1

Q.10 'दीक्षांत समारोह _____।' उपर्युक्त वाक्य में रिक्त स्थान के लिए उपयुक्त विकल्प निम्न में से क्या होगा?

- Ans
- 1. से अभिप्राय विवाह पूर्व किए जाने वाले रीति-रिवाज से है
 - 2. से अभिप्राय संन्यास लेने के लिए किए जाने वाले रीति-रिवाज से है
 - 3. से अभिप्राय उपनयन संस्कार से होता है
 - 4. से अभिप्राय शिक्षा के समापन पर किए जाने वाले संस्कार से है

Question ID : 26433067049

Status : Answered

Chosen Option : 4

Q.11 'कुछ समय उपरान्त हमारा साहित्य उच्चकोटि का था।' उपरोक्त वाक्य के किस भाग में अनुपयुक्त शब्द का प्रयोग किया गया है?

- Ans
- 1. साहित्य उच्चकोटि
 - 2. कुछ समय उपरान्त
 - 3. का था
 - 4. हमारा

Question ID : 26433062804
Status : Answered
Chosen Option : 2

Q.12 'अनु बहुत सुंदर लड़की है।' उपरोक्त वाक्य में रेखांकित शब्द क्या है?

- Ans
- 1. प्रविशेषण
 - 2. विशेषण
 - 3. विशेष्य
 - 4. क्रियाविशेषण

Question ID : 26433063053
Status : Answered
Chosen Option : 3

Q.13 निम्नलिखित शब्द के सही पर्यायवाची शब्द का चयन विकल्पों में से कीजिए।
बिजली

- Ans
- 1. पद्मा
 - 2. यामा
 - 3. दामिनी
 - 4. अर्कजा

Question ID : 26433066940
Status : Answered
Chosen Option : 4

Q.14 निम्नलिखित में से 'माता' का समानार्थी शब्द नहीं है-

- Ans
- 1. जननी
 - 2. वामा
 - 3. अंबा
 - 4. मैया

Question ID : 26433085081
Status : Answered
Chosen Option : 2

Q.15 निम्नलिखित गद्यांश में कुछ शब्दों को हटा दिया गया है। दिए गए विकल्पों की सहायता से रिक्त स्थानों की पूर्ति आसमान पर चढ़ना

- Ans
- 1. बहुत नाराज होना
 - 2. अभिमान होना
 - 3. डर लगना
 - 4. उड़ते रहना

Question ID : 26433065769

Status : Answered

Chosen Option : 2

Comprehension:

निम्नलिखित गद्यांश में कुछ शब्दों को हटा दिया गया है। दिए गए विकल्पों की सहायता से रिक्त स्थानों की पूर्ति कीजिए। प्रत्येक संख्या के लिए सबसे उपयुक्त विकल्प का चयन कीजिए।

विद्या अभ्यास से 1. _____ होती है। जन्म से ही कोई व्यक्ति किसी काम में 2. _____ नहीं होता। अभ्यास के द्वारा जड़ बुद्धि वाले व्यक्ति सुजान अर्थात् 3. _____ बन जाते हैं। जो पहले से सुजान होते हैं, अभ्यास उन्हें और अधिक 4. _____ बना देता है, जिससे वे कार्य में पारंगत हो जाते हैं। अभ्यास को 5. _____ की सीमा में नहीं बाँधा जा सकता है।

SubQuestion No : 16

Q.16 रिक्त स्थान 1 की पूर्ति के लिए सबसे उपयुक्त विकल्प का चयन कीजिए।

- Ans
- 1. दूर
 - 2. प्राप्त
 - 3. समझ
 - 4. सफल

Question ID : 264330111071

Status : Answered

Chosen Option : 2

Comprehension:

निम्नलिखित गद्यांश में कुछ शब्दों को हटा दिया गया है। दिए गए विकल्पों की सहायता से रिक्त स्थानों की पूर्ति कीजिए। प्रत्येक संख्या के लिए सबसे उपयुक्त विकल्प का चयन कीजिए।

विद्या अभ्यास से 1. _____ होती है। जन्म से ही कोई व्यक्ति किसी काम में 2. _____ नहीं होता। अभ्यास के द्वारा जड़ बुद्धि वाले व्यक्ति सुजान अर्थात् 3. _____ बन जाते हैं। जो पहले से सुजान होते हैं, अभ्यास उन्हें और अधिक 4. _____ बना देता है, जिससे वे कार्य में पारंगत हो जाते हैं। अभ्यास को 5. _____ की सीमा में नहीं बाँधा जा सकता है।

SubQuestion No : 17

Q.17 रिक्त स्थान 2 की पूर्ति के लिए सबसे उपयुक्त विकल्प का चयन कीजिए।

- Ans
- 1. हार
 - 2. उत्पन्न
 - 3. धैर्य
 - 4. पारंगत

Question ID : 264330111072

Status : Answered

Chosen Option : 4

Comprehension:

निम्नलिखित गद्यांश में कुछ शब्दों को हटा दिया गया है। दिए गए विकल्पों की सहायता से रिक्त स्थानों की पूर्ति कीजिए। प्रत्येक संख्या के लिए सबसे उपयुक्त विकल्प का चयन कीजिए।

विद्या अभ्यास से 1. _____ होती है। जन्म से ही कोई व्यक्ति किसी काम में 2. _____ नहीं होता। अभ्यास के द्वारा जड़ बुद्धि वाले व्यक्ति सुजान अर्थात् 3. _____ बन जाते हैं। जो पहले से सुजान होते हैं, अभ्यास उन्हें और अधिक 4. _____ बना देता है, जिससे वे कार्य में पारंगत हो जाते हैं। अभ्यास को 5. _____ की सीमा में नहीं बाँधा जा सकता है।

SubQuestion No : 18

Q.18 रिक्त स्थान 3 की पूर्ति के लिए सबसे उपयुक्त विकल्प का चयन कीजिए।

- Ans
- 1. कमज़ोर
 - 2. बुद्धिमान
 - 3. बुद्धि
 - 4. अभ्यास

Question ID : 264330111073

Status : Answered

Chosen Option : 2

Comprehension:

निम्नलिखित गद्यांश में कुछ शब्दों को हटा दिया गया है। दिए गए विकल्पों की सहायता से रिक्त स्थानों की पूर्ति कीजिए। प्रत्येक संख्या के लिए सबसे उपयुक्त विकल्प का चयन कीजिए।

विद्या अभ्यास से 1. _____ होती है। जन्म से ही कोई व्यक्ति किसी काम में 2. _____ नहीं होता। अभ्यास के द्वारा जड़ बुद्धि वाले व्यक्ति सुजान अर्थात् 3. _____ बन जाते हैं। जो पहले से सुजान होते हैं, अभ्यास उन्हें और अधिक 4. _____ बना देता है, जिससे वे कार्य में पारंगत हो जाते हैं। अभ्यास को 5. _____ की सीमा में नहीं बाँधा जा सकता है।

SubQuestion No : 19

Q.19 रिक्त स्थान 4 की पूर्ति के लिए सबसे उपयुक्त विकल्प का चयन कीजिए।

- Ans
- 1. अकुशल
 - 2. मजबूत
 - 3. सफलता
 - 4. कुशल

Question ID : 264330111074

Status : Answered

Chosen Option : 4

Comprehension:

निम्नलिखित गद्यांश में कुछ शब्दों को हटा दिया गया है। दिए गए विकल्पों की सहायता से रिक्त स्थानों की पूर्ति कीजिए। प्रत्येक संख्या के लिए सबसे उपयुक्त विकल्प का चयन कीजिए।

विद्या अभ्यास से 1. _____ होती है। जन्म से ही कोई व्यक्ति किसी काम में 2. _____ नहीं होता। अभ्यास के द्वारा जड़ बुद्धि वाले व्यक्ति सुजान अर्थात् 3. _____ बन जाते हैं। जो पहले से सुजान होते हैं, अभ्यास उन्हें और अधिक 4. _____ बना देता है, जिससे वे कार्य में पारंगत हो जाते हैं। अभ्यास को 5. _____ की सीमा में नहीं बाँधा जा सकता है।

SubQuestion No : 20

Q.20 रिक्त स्थान 5 की पूर्ति के लिए सबसे उपयुक्त विकल्प का चयन कीजिए।

- Ans
- 1. शिक्षा
 - 2. मात्रा
 - 3. मज़बूती
 - 4. समय

Question ID : 264330111075

Status : Answered

Chosen Option : 4

KD Job Updates

Constable GD in CAPFs SSF Rifleman GD in Assam Rifles and Sepoy in NCB Examination 2022

Roll Number	KD Job Updates
Candidate Name	KD Job Updates
Venue Name	iON Digital Zone iDZ Bhagwanpur
Exam Date	01/02/2023
Exam Time	11:45 AM - 12:45 PM
Subject	Constable GD Examination 2022

Section : Part-A-General Intelligence and Reasoning

Q.1 निम्नलिखित में से कौन-सी संख्या दी गई श्रृंखला में प्रश्न-चिह्न (?) के स्थान पर आएगी?
1, 5, 17, 53, ?

- Ans
- 1. 157
 - 2. 161
 - 3. 145
 - 4. 178

Question ID : 26433082008
Status : Not Answered
Chosen Option : --

Q.2 उस समुच्चय का चयन करें, जिसकी संख्याओं के बीच ठीक वही संबंध है, जो संबंध निम्नांकित समुच्चयों की संख्याओं में हैं।
(नोट: संख्याओं को उसके घटक अंकों में विभाजित किए बिना, पूर्ण संख्याओं पर ही गणितीय संक्रियाएँ की जानी चाहिए। जैसे 13 - मान लीजिए 13 पर गणितीय संक्रियाएँ जैसे कि 13 में जोड़ना/घटाना/गुणा करना आदि किया जा सकता है। 13 को 1 और 3 में तोड़कर और फिर 1 और 3 पर गणितीय संक्रियाएँ करने की अनुमति नहीं है।)
(40, 175, 15)
(30, 133, 11)

- Ans
- 1. (25, 91, 12)
 - 2. (29, 110, 13)
 - 3. (25, 108, 10)
 - 4. (17, 45, 10)

Question ID : 26433076547
Status : Not Answered
Chosen Option : --

Q.3 एक निश्चित कूट भाषा में, 'PEOPLE' को 'QEOQME' लिखा जाता है और 'MONKEY' को 'NOOLEZ' लिखा जाता है। उसी भाषा में 'SILVER' कैसे लिखा जाएगा?

- Ans
- 1. TJWMSE
 - 2. TIMWES
 - 3. TWJMSE
 - 4. TJWMES

Question ID : 26433068890
Status : Not Answered
Chosen Option : --

Q.4 किस विकल्प में निम्नलिखित शब्दों का वह क्रम दिया गया है, जिस क्रम में वे अंग्रेजी शब्दकोश में आते हैं?

- 1 universe
- 2 unicorn
- 3 understood
- 4 unhappy
- 5 uniform

- Ans
- 1. 3,2,1,4,5
 - 2. 3,2,1,5,4
 - 3. 3,4,2,5,1
 - 4. 3,4,5,1,2

Question ID : 26433069323

Status : Answered

Chosen Option : 3

Q.5 निम्नलिखित में से कौन-सा पद दी गई श्रृंखला में प्रश्न-चिह्न (?) के स्थान पर आएगा?
BSWG, CTXE, DUYC, ?, FWAY

- Ans
- 1. ZVEA
 - 2. EVZA
 - 3. AAZV
 - 4. VEAZ

Question ID : 26433068981

Status : Answered

Chosen Option : 2

Q.6 एक कूट भाषा में, 'our son's car' को 'fu da be' के रूप में कूटबद्ध किया जाता है, 'son's birthday today' को 'la fu ja' के रूप में कूटबद्ध किया जाता है और 'today our match' को 'he da la' के रूप में कूटबद्ध किया जाता है। शब्द 'car match' के लिए कूट क्या होगा?

- Ans
- 1. he be
 - 2. la he
 - 3. da he
 - 4. fu be

Question ID : 26433086986

Status : Answered

Chosen Option : 1

Q.7 निम्न श्रृंखला में प्रश्न-चिह्न (?) के स्थान पर कौन सी संख्या आएगी?
63, 60, 66, 57, ?

- Ans
- 1. 69
 - 2. 70
 - 3. 55
 - 4. 65

Question ID : 26433068473

Status : Answered

Chosen Option : 1

Q.8 आठ व्यक्ति दो समानांतर पंक्तियों में, प्रत्येक में 4 व्यक्ति के अनुसार, इस प्रकार बैठे हैं कि आसन्न व्यक्तियों के बीच की दूरी समान है।
पंक्ति I में - A, B, C और D बैठे हैं, और उन सभी का मुख दक्षिण की ओर है।
पंक्ति II में - V, X, Y और Z बैठे हैं, और उन सभी का मुख उत्तर की ओर है।
B, A के बगल में बैठा एकमात्र व्यक्ति है, और A, Y के ठीक सामने बैठा है। V अपनी पंक्ति के अंतिम बाएं सिरे पर बैठा है, और C के ठीक सामने है। D, C के बाईं ओर ठीक बगल में, और X के ठीक सामने बैठा है।
Y के बाईं ओर ठीक बगल में कौन बैठा है?

- Ans 1. X
 2. Z
 3. A
 4. V

Question ID : 26433068746

Status : Not Answered

Chosen Option : --

Q.9 निम्नलिखित में से कौन-सा पद दी गई श्रृंखला में प्रश्न-चिह्न (?) के स्थान पर आएगा?
ZLJI, XJHG, VHFE, ?, RDBA

- Ans 1. RFDC
 2. TFDC
 3. TFDE
 4. TFEC

Question ID : 26433068633

Status : Answered

Chosen Option : 2

Q.10 छः व्यक्ति A, B, C, D, E और F एक वृत्ताकार मेज के परितः मेज के केंद्र की ओर मुख करके बैठे हैं। E, B के दाईं ओर दूसरे स्थान पर बैठा है। F, B और A के ठीक बगल में बैठा है। D, F के बाईं ओर दूसरे स्थान पर बैठा है। C के दाईं ओर ठीक बगल में कौन बैठा है?

- Ans 1. A
 2. E
 3. B
 4. D

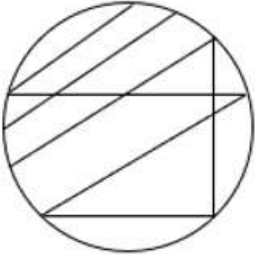
Question ID : 26433081515

Status : Answered

Chosen Option : 4


Q.11 वह विकल्प चित्र चुनिए, जो प्रस्तुत चित्र में अंतर्निहित है। (घुमाना अनुमन्य नहीं

है)

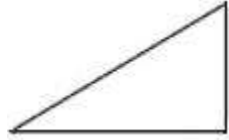


Ans

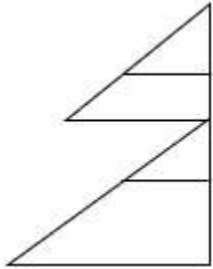
✗ 1.



✓ 2.



✗ 3.



✗ 4.



KD Job Updates

Question ID : 26433069351

Status : Answered

Chosen Option : 2

Q.12 तीन कथनों के बाद तीन निष्कर्ष I, II और III दिए गए हैं। कथनों को सत्य मानते हुए, भले ही वे सामान्य रूप से ज्ञात तथ्यों से भिन्न प्रतीत होते हों, निर्णय लीजिए कि कौन-सा/से निष्कर्ष कथनों का तार्किक रूप से अनुसरण करता/करते है/हैं।

कथन:

कुछ टेप ग्लू हैं।

कुछ ग्लू पेंट हैं।

सभी पेंट कंप्यूटर हैं।

निष्कर्ष:

I. कुछ टेप पेंट हैं।

II. सभी ग्लू पेंट हैं।

III. कुछ ग्लू कंप्यूटर हैं।

- Ans
- 1. केवल निष्कर्ष I अनुसरण करता है।
 - 2. कोई भी निष्कर्ष अनुसरण नहीं करता है।
 - 3. केवल निष्कर्ष II अनुसरण करता है।
 - 4. केवल निष्कर्ष III अनुसरण करता है।

Question ID : 26433081793

Status : Answered

Chosen Option : 4

Q.13 उस विकल्प का चयन करें जो पांचवें अक्षर-समूह से उसी प्रकार संबंधित है जिस प्रकार दूसरा अक्षर-समूह पहले अक्षर-समूह से संबंधित है और चौथा अक्षर-समूह तीसरे अक्षर-समूह से संबंधित है।
KBT : PEU :: UQA : ZTB :: FJR : ?

- Ans
- 1. KMQ
 - 2. KMS
 - 3. JMU
 - 4. LNT

Question ID : 26433057746

Status : Answered

Chosen Option : 2

Q.14 उस विकल्प का चयन कीजिए जो तीसरे शब्द से उसी प्रकार संबंधित है जिस प्रकार दूसरा शब्द पहले शब्द से संबंधित है (शब्दों को अर्थपूर्ण शब्दों के रूप में माना जाना चाहिए और शब्द में अक्षरों/व्यंजनों/स्वरों की संख्या के आधार पर एक दूसरे से संबंधित नहीं किया जाना चाहिए)
शंकु : आकृति :: कार : _____

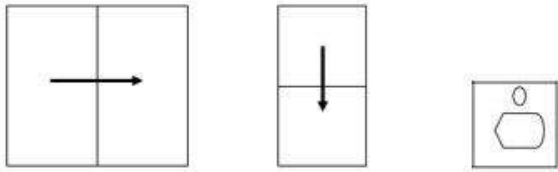
- Ans
- 1. वाहन
 - 2. सड़क
 - 3. स्टेयरिंग
 - 4. टायर

Question ID : 26433078825

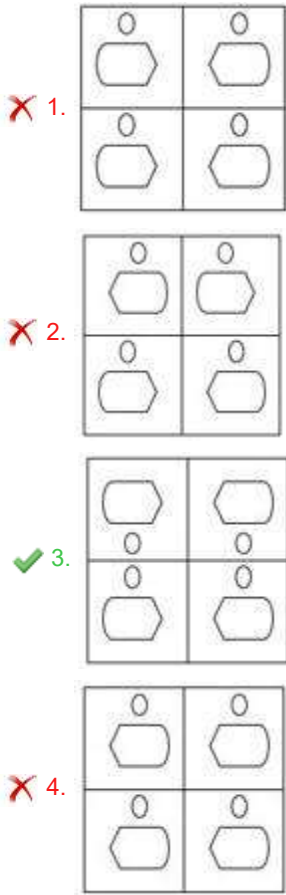
Status : Answered

Chosen Option : 1

Q.15 A paper is folded and cut as shown below. How will it appear when unfolded?



Ans



Question ID : 26433089785

Status : Answered

Chosen Option : 1

Q.16 A @ B का अर्थ है 'A, B का पति है'।
 A & B का अर्थ है 'A, B की माता है'।
 A # B का अर्थ है 'A, B की पुत्री है'।
 A % B का अर्थ है 'A, B का सहोदर है'।
 यदि R # P @ W % F & K है, तो R, K से किस प्रकार संबंधित है?

- Ans
- ✗ 1. साला
 - ✓ 2. मौसेरी बहन
 - ✗ 3. भाई
 - ✗ 4. भतीजा

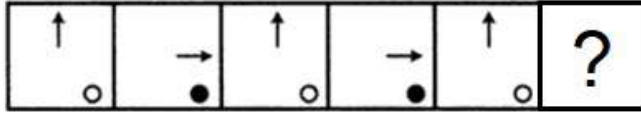
Question ID : 26433069616

Status : Not Answered

Chosen Option : --

Q.17 दिए गए विकल्पों में से उस आकृति का चयन करें जो निम्नलिखित श्रृंखला में

प्रश्नवाचक चिह्न (?) का स्थान ले सकती है।



Ans

- ✗ 1.
- ✗ 2.
- ✗ 3.
- ✓ 4.

Question ID : 26433080501

Status : Answered

Chosen Option : 4

Q.18 दिए गए समीकरण में * चिह्नों को क्रमिक रूप से बदलने और समीकरण को संतुलित (सही) करने के लिए निम्नलिखित विकल्पों में से गणितीय चिह्नों के सही संयोजन का चयन करें।

$$45 * 15 * 13 * 52 * 26 * 37$$

- Ans ✗ 1. +, ×, =, ÷, ×
- ✓ 2. ÷, ×, =, ÷, +
- ✗ 3. =, -, +, ÷, +
- ✗ 4. =, ×, +, -, -

Question ID : 26433087191

Status : Answered

Chosen Option : 2

Q.19 नीचे दिए गए समीकरण को गणितीय रूप से सही बनाने के लिए किन दो चिह्नों को परस्पर बदलना चाहिए?

$$112 - 14 \div 40 + 4 \times 18 = 40$$

- Ans ✗ 1. + और ×
- ✗ 2. + और ÷
- ✗ 3. - और +
- ✓ 4. ÷ और -

Question ID : 264330117507

Status : Answered

Chosen Option : 4

Q.20 दर्पण को चित्र में दिखाए अनुसार MN पर रखे जाने पर दी गई आकृति के सही

दर्पण प्रतिबिंब का चयन करें।



- Ans
- 1. l k h n t r m w
 - 2. l k h n t r w m
 - 3. l k h n t r w m
 - 4. l k h n t r w m

Question ID : 26433082332

Status : Answered

Chosen Option : 4

Section : Part-B-General Knowledge and General awareness

Q.1 जनगणना 2011 के अनुसार भारत के किस राज्य में महिला साक्षरता दर सबसे कम है?

- Ans
- 1. राजस्थान
 - 2. हिमाचल प्रदेश
 - 3. बिहार
 - 4. उत्तर प्रदेश

Question ID : 264330116054

Status : Answered

Chosen Option : 4

Q.2 निम्नलिखित में से किसे भारत का 'फ्लाइंग सिंघ' कहा जाता है?

- Ans
- 1. मोहिन्दर सिंह
 - 2. अजीत पाल सिंह
 - 3. जोगिन्दर सिंह
 - 4. मिल्खा सिंह

Question ID : 264330116259

Status : Not Answered

Chosen Option : --

Q.3 1950-51 में, सकल घरेलू उत्पाद में औद्योगिक क्षेत्र का योगदान लगभग कितने प्रतिशत था?

Ans 1. 11.8

2. 15.2

3. 6.2

4. 22.4

Question ID : 264330116140

Status : Not Answered

Chosen Option : --

Q.4 निम्नलिखित में से कौन हर्षवर्धन के दरबारी कवि और 'हर्षचरित' के लेखक थे?

Ans 1. बाणभट्ट

2. कालिदास

3. राजशेखर

4. आर्यभट्ट

Question ID : 26433089126

Status : Answered

Chosen Option : 2

Q.5 भारत के संविधान के अनुच्छेद 100(3) के तहत, संसद के किसी भी सदन की बैठक का गठन करने के लिए आवश्यक गणपूर्ति, सदन के सदस्यों की कुल संख्या का _____ भाग है।

Ans 1. एक बटे पांचवां

2. एक बटे दसवां

3. आधा

4. एक तिहाई

Question ID : 26433089913

Status : Not Answered

Chosen Option : --

Q.6 प्रत्येक बारह वर्ष बाद मनाया जाने वाला 'महामस्तकाभिषेक' एक _____ त्योहार है।

Ans 1. बौद्ध

2. सिख

3. हिंदू

4. जैन

Question ID : 26433094889

Status : Not Answered

Chosen Option : --

Q.7 कौशल भारत मिशन को _____ के प्रमुख कार्यक्रम के तहत लॉन्च किया गया था।

- Ans
- 1. वाणिज्य एवं उद्योग मंत्रालय
 - 2. श्रम एवं रोजगार मंत्रालय
 - 3. कौशल विकास और उद्यमशीलता मंत्रालय
 - 4. सूचना एवं प्रसारण मंत्रालय

Question ID : 264330116191

Status : Not Answered

Chosen Option : --

Q.8 रुक्मिणी देवी अरुंडेल ने किस नृत्य शैली में विभिन्न पुरस्कार जीते हैं?

- Ans
- 1. भरतनाट्यम
 - 2. कथकली
 - 3. कथक
 - 4. लावणी

Question ID : 264330115845

Status : Answered

Chosen Option : 1

Q.9 भारतीय संविधान के किस अनुच्छेद में कहा गया है कि भारत अर्थात् इंडिया 'राज्यों का संघ' होगा?

- Ans
- 1. अनुच्छेद 2
 - 2. अनुच्छेद 1
 - 3. अनुच्छेद 11
 - 4. अनुच्छेद 10

Question ID : 26433089908

Status : Answered

Chosen Option : 2

Q.10 1866 में, लंदन में ईस्ट इंडिया एसोसिएशन की स्थापना निम्नलिखित में से किसने की थी?

- Ans
- 1. राजा राम मोहन राय
 - 2. सत्येंद्र नाथ टैगोर
 - 3. सैय्यद अहमद खान
 - 4. दादाभाई नौरोजी

Question ID : 26433090584

Status : Answered

Chosen Option : 3

Q.11 भारत के किस केंद्रीय मंत्री ने नवंबर 2022 में भारत अंतर्राष्ट्रीय व्यापार मेले में खादी इंडिया पवेलियन का उद्घाटन किया?

- Ans
- 1. नारायण राणे
 - 2. निर्मला सीतारमण
 - 3. सुब्रह्मण्यम जयशंकर
 - 4. किरण रिजिजू

Question ID : 264330114954
Status : Answered
Chosen Option : 2

Q.12 भारत में हरित क्रांति का नेतृत्व निम्न में से किसने किया था?

- Ans
- 1. महात्मा गांधी
 - 2. जवाहर लाल नेहरू
 - 3. नॉर्मन बोरलॉग
 - 4. एमएस स्वामीनाथन

Question ID : 264330115416
Status : Not Answered
Chosen Option : --

Q.13 मुक्राबले को समाप्त घोषित करने के लिए एक फ्रीस्टाइल पहलवान के पास अपने प्रतिद्वन्दी के विरुद्ध कितने अंक होने चाहिए?

- Ans
- 1. 10
 - 2. 8
 - 3. 14
 - 4. 12

Question ID : 264330115934
Status : Not Answered
Chosen Option : --

Q.14 उत्तर-पूर्वी पवनें कहां से उत्पन्न होती हैं?

- Ans
- 1. उत्तरी गोलार्द्ध के उष्ण कटिबंधीय निम्न दाब कटिबंध
 - 2. दक्षिणी गोलार्ध के उष्ण कटिबंधीय उच्च दाब कटिबंध
 - 3. उत्तरी गोलार्ध के उपोष्णकटिबंधीय उच्च दाब कटिबंध
 - 4. दक्षिणी गोलार्ध के उपोष्णकटिबंधीय उच्च दाब कटिबंध

Question ID : 26433087883
Status : Answered
Chosen Option : 3

Q.15 नाइट्रोजन का परमाणु द्रव्यमान कितना है?

- Ans 1. 18
 2. 14
 3. 12
 4. 16

Question ID : 264330115173
Status : Answered
Chosen Option : 2

Q.16 असम का सत्रीया नृत्य _____ से प्रेरित है।

- Ans 1. शक्ति आंदोलन
 2. तंत्रवाद
 3. भक्ति आंदोलन
 4. सूफी आंदोलन

Question ID : 26433086564
Status : Answered
Chosen Option : 2

Q.17 माइक्रोफाइनेंस ऋण को किसी संपार्श्विक की आवश्यकता _____ है।

- Ans 1. अधिकांशतः होती
 2. होती
 3. हमेशा होती
 4. नहीं होती

Question ID : 264330115294
Status : Answered
Chosen Option : 3

Q.18 इंडिया इंटरनेशनल कॉन्क्लेव 2022 में, ग्लोबल पीस एंबेसडर के रूप में किसे सम्मानित किया गया?

- Ans 1. आदेश गिंदोडिया
 2. अंचल कुमार श्रीवास्तव
 3. अंकिता शर्मा
 4. बबीता सिंह

Question ID : 264330114997
Status : Not Answered
Chosen Option : --

Q.19 निम्नलिखित में से कौन सा जीवाणु संक्रमण का एक लक्षण है?

- Ans
- 1. हृदय रोध
 - 2. फ्रैक्चर
 - 3. बुखार
 - 4. दिल का दौरा

Question ID : 264330115228

Status : Not Answered

Chosen Option : --

Q.20 विषम का चयन करें। (संकेत: कृषि प्रक्रियाएं)

- Ans
- 1. छिड़काव
 - 2. खाना
 - 3. बुवाई
 - 4. जोतना

Question ID : 264330115541

Status : Answered

Chosen Option : 2

Section : Part-C-Elementary Mathematics

Q.1 किसी वस्तु के अंकित मूल्य पर 10% और 12% की क्रमिक छूट के बाद, उसे Rs.9,504 में बेचा जाता है, तो उसका अंकित मूल्य _____ है।

- Ans
- 1. Rs.13,000
 - 2. Rs.12,000
 - 3. Rs.15,000
 - 4. Rs.14,000

Question ID : 26433061306

Status : Not Answered

Chosen Option : --

Q.2 दो संख्याओं का महत्तम समापवर्तक (HCF) 6 है और उनका लघुत्तम समापवर्त्य (LCM) 253080 है। यदि एक संख्या 4218 है, तो दूसरी संख्या क्या होगी?

- Ans
- 1. 488
 - 2. 120
 - 3. 245
 - 4. 360

Question ID : 26433080271

Status : Not Answered

Chosen Option : --

Q.3 निम्नलिखित में से कौन सी भिन्न सबसे बड़ी है?

$$\frac{3}{5}, \frac{7}{10}, \frac{11}{15}, \frac{13}{20}$$

Ans

1. $\frac{7}{10}$

2. $\frac{3}{5}$

3. $\frac{11}{15}$

4. $\frac{13}{20}$

Question ID : 26433080320

Status : Answered

Chosen Option : 2

Q.4 मोहन और सोहन एक ही स्थान से क्रमशः 8 km/h और 9 km/h की चाल से चलते हैं। यदि मोहन और सोहन एक ही दिशा में जा रहे हैं, तो 4.5 h के बाद मोहन और सोहन के बीच की दूरी क्या होगी?

Ans 1. 4.5 km

2. 5.0 km

3. 4.0 km

4. 5.5 km

Question ID : 26433075688

Status : Not Answered

Chosen Option : --

Q.5 एक क्रिकेट टीम के ग्यारह खिलाड़ियों का स्कोर 12, 9, 52, 34, 30, 22, 0, 56, 16, 27 और 72 है। टीम का औसत स्कोर ज्ञात कीजिए।

Ans 1. 34

2. 30

3. 27

4. 35

Question ID : 26433075965

Status : Answered

Chosen Option : 2

Q.6 कपिल, मोहन और राजू एक कार्य को अलग-अलग 18, 36 और 54 दिनों में कर सकते हैं। उन्होंने एक साथ काम शुरू किया लेकिन मोहन ने काम पूरा होने से 8 दिन पहले काम छोड़ दिया और राजू ने काम पूरा होने से 6 दिन पहले काम छोड़ दिया। वह समय (लगभग) ज्ञात करें जिसमें कार्य पूरा हुआ है।

- Ans
- 1. 13 दिन
 - 2. 15 दिन
 - 3. 19 दिन
 - 4. 12 दिन

Question ID : 264330116875

Status : Answered

Chosen Option : 2

Q.7 एक विक्रेता 20 सेब Rs.300 में खरीदता है और 15 सेब Rs.300 में बेचता है। Rs.300 का लाभ अर्जित करने के लिए कितने सेब खरीदे और बेचे जाने चाहिए?

- Ans
- 1. 50
 - 2. 55
 - 3. 60
 - 4. 65

Question ID : 26433080359

Status : Answered

Chosen Option : 4

Q.8 9% वार्षिक की दर से वार्षिक आधार पर चक्रवृद्धि होने वाले Rs.30,000 का चक्रवृद्धि ब्याज Rs.5,643 बनता है। तो समय अवधि (वर्षों में) ज्ञात कीजिए।

- Ans
- 1. तीन
 - 2. चार
 - 3. पाँच
 - 4. दो

Question ID : 26433075239

Status : Not Answered

Chosen Option : --

Q.9 अमोल ने अपने उत्पादों का मूल्य 20 प्रतिशत से बढ़ा दिया। न लाभ न हानि के आधार पर उत्पादों को बेचने के लिए उन्हें कितनी छूट देनी चाहिए?

- Ans
- 1. 22/5 प्रतिशत
 - 2. 50/3 प्रतिशत
 - 3. 27/5 प्रतिशत
 - 4. 35/3 प्रतिशत

Question ID : 264330116760

Status : Not Answered

Chosen Option : --

Q.10 एक बेलन का आयतन ज्ञात कीजिए जिसकी ऊँचाई 56 cm और आधार त्रिज्या 28 cm है। ($\pi = \frac{22}{7}$ का प्रयोग करें)

- Ans
- 1. 123962 cm³
 - 2. 154853 cm³
 - 3. 137984 cm³
 - 4. 216135 cm³

Question ID : 26433080072
Status : Answered
Chosen Option : 3

Q.11 समरीन और गरिमा एक साथ मिलकर एक काम को 8 दिनों में पूरा करते हैं। यदि समरीन अकेले काम करते हुए उसी काम को 10 दिनों में पूरा कर सकती है, तो गरिमा अकेले उसी काम को कितने दिनों में पूरा करेगी?

- Ans
- 1. 20
 - 2. 45
 - 3. 35
 - 4. 40

Question ID : 26433075566
Status : Answered
Chosen Option : 4

Q.12 40% वार्षिक दर से उधार दी गई एक निश्चित राशि पर, 1 वर्ष के लिए, अर्धवार्षिक रूप से देय, चक्रवृद्धि ब्याज, और 1 वर्ष के लिए साधारण ब्याज के बीच का अंतर ₹200 है। राशि _____ है।

- Ans
- 1. ₹4,000
 - 2. ₹4,500
 - 3. ₹5,500
 - 4. ₹5,000

Question ID : 26433090291
Status : Answered
Chosen Option : 4

Q.13 एक स्कूटर की कीमत में 20 प्रतिशत की कमी की गई और अब इसकी कीमत 72000 रुपए है। इसका मूल मूल्य क्या था?

- Ans
- 1. 94000 रुपए
 - 2. 100000 रुपए
 - 3. 90000 रुपए
 - 4. 88000 रुपए

Question ID : 264330116795
Status : Answered
Chosen Option : 3

Q.14 432, 648 और 576 का महत्तम समापवर्तक और लघुत्तम समापवर्त्य क्रमशः _____ और _____ हैं।

- Ans 1. 72, 2592
 2. 72, 5184
 3. 36, 5184
 4. 36, 2592

Question ID : 26433085417
Status : Not Answered
Chosen Option : --

Q.15 वह अनुपात ज्ञात कीजिए, जिसमें Rs.120 प्रति kg वाले चावल को Rs.155 प्रति kg वाले चावल के साथ मिलाकर Rs.135 प्रति kg की दर वाला चावल-मिश्रण प्राप्त किया गया हो।

- Ans 1. 3 : 4
 2. 1 : 3
 3. 2 : 3
 4. 4 : 3

Question ID : 26433074915
Status : Not Answered
Chosen Option : --

Q.16 रमेश और नरेश एक ही बिंदु से 1920 मीटर लंबे एक वृत्ताकार पथ पर एक साथ समान दिशा में 40 m/sec और 64 m/sec की चाल से दौड़ना आरंभ करते हैं। आरंभ से कितने समय बाद वे पहली बार पथ पर कहीं मिलेंगे?

- Ans 1. 90 sec
 2. 70 sec
 3. 80 sec
 4. 60 sec

Question ID : 26433075530
Status : Not Answered
Chosen Option : --

Q.17 एक वॉशिंग मशीन का मूल्य Rs.25,000 है। मूल्य में पहले 20% की वृद्धि की गई और बाद में इसे 20% कम किया गया। वॉशिंग मशीन का वर्तमान मूल्य _____ है।

- Ans 1. Rs.25,000
 2. Rs.24,000
 3. Rs.25,500
 4. Rs.24,500

Question ID : 26433082362
Status : Answered
Chosen Option : 2

Q.18 7, 4 और 7 का चतुर्थानुपाती ज्ञात कीजिए।

Ans 1. 4

2. 7

3. 6

4. 9

Question ID : 26433080033

Status : Answered

Chosen Option : 1

Q.19 एक कंप्यूटर को Rs.26,000 में बेचने पर एक व्यक्ति को 4% का लाभ होता है। यदि वह कंप्यूटर को Rs.19,000 में बेचता है, तो उसे कितनी हानि होगी?

Ans 1. 16%

2. 20%

3. 14%

4. 24%

Question ID : 26433074986

Status : Not Answered

Chosen Option : --

Q.20 उस घन का संपूर्ण पृष्ठीय क्षेत्रफल _____ है, जिसकी भुजा 0.75 cm है।

Ans 1. 3.375 cm^2

2. 3.735 cm^2

3. 3.357 cm^2

4. 3.537 cm^2

Question ID : 26433073050

Status : Answered

Chosen Option : 1

Section : Part-D-English

Q.1 Select the correct option to substitute the underlined segment in the given sentence. If no substitution is required, select 'No substitution'.

She is married with a doctor.

Ans 1. No substitution

2. to a doctor

3. a doctor

4. for a doctor

Question ID : 26433090817

Status : Not Answered

Chosen Option : --

Q.2 Select the most appropriate meaning of the given idiom.

Face the music

- Ans 1. Music for peace and health
 2. To face the unpleasant consequences of one's actions
 3. Listening to melodies from music albums
 4. Dance according to the tune

Question ID : 26433072576
Status : Not Answered
Chosen Option : --

Q.3 Select the option that expresses the given sentence in simple past tense.

- A. Arun knew the concepts of geometry.
B. Arun had been knowing the concepts of geometry.
C. Arun had known the concepts of geometry.
D. Arun was knowing the concepts of geometry.

- Ans 1. C
 2. A
 3. D
 4. B

Question ID : 26433073515
Status : Not Answered
Chosen Option : --

Q.4 Select the most appropriate synonym of the given word.

Queer

- Ans 1. Strange
 2. Expedite
 3. Ordinary
 4. Valid

Question ID : 26433072189
Status : Not Answered
Chosen Option : --

Q.5 Select the most appropriate synonym of the given word.

Competent

- Ans 1. Unfit
 2. Capable
 3. Overqualified
 4. Unskilled

Question ID : 26433086484
Status : Not Answered
Chosen Option : --

Q.6 Select the INCORRECTLY spelt word.

- Ans
- 1. Naturally
 - 2. Laundry
 - 3. Maintainance
 - 4. Jeweller

Question ID : 26433073739
Status : Not Answered
Chosen Option : --

Q.7 Select the most appropriate meaning of the given idiom.

Royal road

- Ans
- 1. Achieving something by birth
 - 2. Achieving something by truth
 - 3. Achieving something by false means
 - 4. Achieving something trouble free

Question ID : 26433084754
Status : Not Answered
Chosen Option : --

Q.8 Select the INCORRECTLY spelt word.

- Ans
- 1. Sentence
 - 2. Artificial
 - 3. Tendancy
 - 4. Matrimony

Question ID : 26433073503
Status : Not Answered
Chosen Option : --

Q.9 Select the most appropriate ANTONYM of the underlined word.

As a boy, Charles was a boor who bullied other kids in his neighbourhood.

- Ans
- 1. creep
 - 2. scum
 - 3. blighter
 - 4. gentleman

Question ID : 26433088840
Status : Not Answered
Chosen Option : --

Q.10 Select the most appropriate option to fill in the blanks and make the sentence meaningful.

She hurt her _____ and _____.

- Ans
- 1. heal; toe
 - 2. heal; tow
 - 3. heel; tow
 - 4. heel; toe

Question ID : 26433092102
Status : Not Answered
Chosen Option : --

Q.11 Select the most appropriate ANTONYM of the word given in the bracket to fill in the blank.

My stomach is so _____ (empty) I couldn't possibly eat more.

- Ans
- 1. overfed
 - 2. drained
 - 3. flush
 - 4. teeming

Question ID : 26433084613
Status : Not Answered
Chosen Option : --

Q.12 Select the most appropriate option that can substitute the underlined segment in the given sentence. If there is no need to substitute it, select 'No substitution'.
Some passengers misplaced their luggages before boarding the train.

- Ans
- 1. No substitution
 - 2. misplaced his luggages
 - 3. misplaces their luggages
 - 4. misplaced their luggage

Question ID : 26433093078
Status : Not Answered
Chosen Option : --

Q.13 Fill in the blanks with the correct homophone.

_____ of anything is destructive in nature.

- Ans
- 1. Axes
 - 2. Excess
 - 3. Axis
 - 4. Access

Question ID : 26433092935
Status : Not Answered
Chosen Option : --

Q.14 Select the most appropriate option that can substitute the underlined segment in the given sentence.

Land with unoccupied possession is pretending to be more valuable.

- Ans
- 1. are likely to be
 - 2. was similarly to be
 - 3. is likely to be
 - 4. have likely to be

Question ID : 26433088506
Status : Not Answered
Chosen Option : --

Q.15 Select the most appropriate ANTONYM of the given word.

Perplex

- Ans
- 1. Complex
 - 2. Simplify
 - 3. Comprehensive
 - 4. Classify

Question ID : 26433072272
Status : Not Answered
Chosen Option : --

Comprehension:

In the following passage, some words have been deleted. Read the passage carefully and select the most appropriate option to fill in each blank.

The oldest hub of carpet weaving in India is Mirzapur in Bhadohi district of Uttar Pradesh. The Ganga (1)_____ past this town with its ghats, ancient temples and waterfalls. The genesis of carpet making in Mirzapur can be (2)_____ to the Mughal emperor, Akbar, in the 16th century. A (3)_____ of Persian carpet weavers, it is said, on its way to the Mughal court was (4)_____ and injured by dacoits on the Grand Trunk Road. The weavers were rescued and given shelter by local villagers. The master weaver of the group decided to settle down here and share his skills with his (5)_____. That is how the renowned carpet industry of Mirzapur took root.

SubQuestion No : 16

Q.16 Select the most appropriate option to fill in blank 1.

- Ans
- 1. sets
 - 2. spreads
 - 3. flows
 - 4. grows

Question ID : 26433090525
Status : Not Answered
Chosen Option : --

Comprehension:

In the following passage, some words have been deleted. Read the passage carefully and select the most appropriate option to fill in each blank.

The oldest hub of carpet weaving in India is Mirzapur in Bhadohi district of Uttar Pradesh. The Ganga (1)_____ past this town with its ghats, ancient temples and waterfalls. The genesis of carpet making in Mirzapur can be (2)_____ to the Mughal emperor, Akbar, in the 16th century. A (3)_____ of Persian carpet weavers, it is said, on its way to the Mughal court was (4)_____ and injured by dacoits on the Grand Trunk Road. The weavers were rescued and given shelter by local villagers. The master weaver of the group decided to settle down here and share his skills with his (5)_____. That is how the renowned carpet industry of Mirzapur took root.

SubQuestion No : 17

Q.17 Select the most appropriate option to fill in blank 2.

- Ans** 1. traced
 2. found
 3. extracted
 4. reduced

Question ID : 26433090526

Status : Not Answered

Chosen Option : --

Comprehension:

In the following passage, some words have been deleted. Read the passage carefully and select the most appropriate option to fill in each blank.

The oldest hub of carpet weaving in India is Mirzapur in Bhadohi district of Uttar Pradesh. The Ganga (1)_____ past this town with its ghats, ancient temples and waterfalls. The genesis of carpet making in Mirzapur can be (2)_____ to the Mughal emperor, Akbar, in the 16th century. A (3)_____ of Persian carpet weavers, it is said, on its way to the Mughal court was (4)_____ and injured by dacoits on the Grand Trunk Road. The weavers were rescued and given shelter by local villagers. The master weaver of the group decided to settle down here and share his skills with his (5)_____. That is how the renowned carpet industry of Mirzapur took root.

SubQuestion No : 18

Q.18 Select the most appropriate option to fill in blank 3.

- Ans** 1. caravan
 2. crowd
 3. army
 4. band

Question ID : 26433090527

Status : Not Answered

Chosen Option : --

Comprehension:

In the following passage, some words have been deleted. Read the passage carefully and select the most appropriate option to fill in each blank.

The oldest hub of carpet weaving in India is Mirzapur in Bhadohi district of Uttar Pradesh. The Ganga (1)_____ past this town with its ghats, ancient temples and waterfalls. The genesis of carpet making in Mirzapur can be (2)_____ to the Mughal emperor, Akbar, in the 16th century. A (3)_____ of Persian carpet weavers, it is said, on its way to the Mughal court was (4)_____ and injured by dacoits on the Grand Trunk Road. The weavers were rescued and given shelter by local villagers. The master weaver of the group decided to settle down here and share his skills with his (5)_____. That is how the renowned carpet industry of Mirzapur took root.

SubQuestion No : 19

Q.19 Select the most appropriate option to fill in blank 4.

- Ans 1. hindered
 2. waylaid
 3. encroached
 4. lost

Question ID : 26433090528

Status : Not Answered

Chosen Option : --

Comprehension:

In the following passage, some words have been deleted. Read the passage carefully and select the most appropriate option to fill in each blank.

The oldest hub of carpet weaving in India is Mirzapur in Bhadohi district of Uttar Pradesh. The Ganga (1)_____ past this town with its ghats, ancient temples and waterfalls. The genesis of carpet making in Mirzapur can be (2)_____ to the Mughal emperor, Akbar, in the 16th century. A (3)_____ of Persian carpet weavers, it is said, on its way to the Mughal court was (4)_____ and injured by dacoits on the Grand Trunk Road. The weavers were rescued and given shelter by local villagers. The master weaver of the group decided to settle down here and share his skills with his (5)_____. That is how the renowned carpet industry of Mirzapur took root.

SubQuestion No : 20

Q.20 Select the most appropriate option to fill in blank 5.

- Ans 1. recipients
 2. beneficiaries
 3. sponsors
 4. benefactors

Question ID : 26433090529

Status : Not Answered

Chosen Option : --

Q.1 निम्नलिखित में से अशुद्ध वाक्य कौन-सा है?

- Ans
- 1. रघु ने निकिता को मिठाई दी।
 - 2. मैं बचपन में वहाँ जाता था।
 - 3. प्रत्येक व्यक्ति कविता नहीं कर सकते।
 - 4. बैल और बकरी घास चरते हैं।

Question ID : 26433066985

Status : Answered

Chosen Option : 2

Q.2 निम्न वाक्य में रेखांकित शब्द के स्थान पर सर्वोचित शब्द का चयन कीजिए।
इस पर 'जिसकी लाठी उसकी भैंस' वाली कथा चरितार्थ होती है।

- Ans
- 1. कहावत
 - 2. आख्यायिका
 - 3. कहानी
 - 4. गाथा

Question ID : 26433065694

Status : Answered

Chosen Option : 1

Q.3 निम्नलिखित वाक्य में रेखांकित शब्द के स्थान पर उपयुक्त पर्यायवाची शब्द कौन-सा होगा?
राम कुशल कारीगर है।

- Ans
- 1. चंचल
 - 2. भुवन
 - 3. निपुण
 - 4. अलक

Question ID : 26433066899

Status : Answered

Chosen Option : 2

Q.4 "उसे यहाँ आने के लिए बोल दो।"
उपरोक्त वाक्य में क्रिया सम्बन्धी त्रुटि पहचानकर निम्नलिखित में से शुद्ध वाक्य का चयन कीजिए।

- Ans
- 1. उसे यहाँ आने के लिए बता दो।
 - 2. उसे यहाँ आने के लिए भेज दो।
 - 3. उसे यहाँ आने के लिए कह दो।
 - 4. उसे यहाँ आने के लिए सूचना दो।

Question ID : 26433066973

Status : Answered

Chosen Option : 2

Q.5 क्षेत्र को लेकर भारत में संघर्ष अब आम बात हो गई है।
उपरोक्त वाक्य में रेखांकित शब्द के स्थान पर भाववाचक संज्ञा शब्द क्या होगा?

- Ans
- 1. क्षत्रिय
 - 2. क्षेत्रीयता
 - 3. क्षेत्रित
 - 4. क्षेत्रीय

Question ID : 26433062857
Status : Answered
Chosen Option : 4

Q.6 निम्नलिखित मुहावरे का उपयुक्त अर्थ क्या होगा?
कागजी घोड़े दौड़ाना

- Ans
- 1. पढ़ाई लिखाई करना
 - 2. अत्याधिक प्रयास करना
 - 3. बहुत पढ़ना लिखना
 - 4. बिना मतलब का काम करना

Question ID : 26433065777
Status : Answered
Chosen Option : 2

Q.7 निम्नलिखित अर्थ वाले मुहावरे का चयन विकल्पों में से कीजिए।
किसी व्यक्ति का पुरानी परंपरा के साथ चलना

- Ans
- 1. शेघी बघारना
 - 2. लकीर का फकीर होना
 - 3. राई का पहाड़ बनाना
 - 4. मक्खी मारना

Question ID : 26433070003
Status : Answered
Chosen Option : 3

Q.8 'पीतांबर _____ ।'
उपर्युक्त वाक्य में रिक्त स्थान के लिए उपयुक्त विकल्प निम्न में से क्या होगा?

- Ans
- 1. का अर्थ है – पीले रंग का वस्त्र
 - 2. का अर्थ है – पीले रंग का व्यक्ति
 - 3. का अर्थ है – पीले रंग का रथ
 - 4. का अर्थ है – पीले रंग का आकाश

Question ID : 26433067043
Status : Answered
Chosen Option : 1

Q.9 प्रातःकाल में सूरज की किरणें मन को भाती हैं।
उपरोक्त वाक्य में रेखांकित शब्द के उचित पर्यायवाची शब्द का चयन विकल्पों में से कीजिए।

- Ans
- 1. ईख
 - 2. प्रभात
 - 3. जया
 - 4. रश्मि

Question ID : 26433079720
Status : Answered
Chosen Option : 1

Q.10 'आशा से बहुत अधिक' इस वाक्यांश के लिए सार्थक शब्द है -

- Ans
- 1. वांछित
 - 2. प्रतीक्षित
 - 3. आशातीत
 - 4. इच्छित

Question ID : 26433062332
Status : Answered
Chosen Option : 2

Q.11 'महिला जब भाषण दे रही थी, उसकी आवाज में एक आकर्षण था।' निम्न में से कौन सा इस वाक्य में प्रयुक्त 'आकर्षण' शब्द का विलोम नहीं है?

- Ans
- 1. विकर्षण
 - 2. अनाकर्षण
 - 3. विपकर्षण
 - 4. अपकर्षण

Question ID : 26433069746
Status : Answered
Chosen Option : 1

Q.12 'बीज बोने के थोड़े दिन बाद आंकुर निकलने लगे।' वाक्य के किस भाग में अशुद्ध वर्तनी वाला शब्द है?

- Ans
- 1. के थोड़े दिन
 - 2. निकलने लगे।
 - 3. बाद आंकुर
 - 4. बीज बोने

Question ID : 26433069699
Status : Answered
Chosen Option : 3

Q.13 'जो अंडे से जन्म लेता है' वाक्यांश के लिए इनमें से उपयुक्त शब्द कौन-सा है?

- Ans
- 1. मलयज
 - 2. अंत्यज
 - 3. जलज
 - 4. अंडज

Question ID : 26433066886

Status : Answered

Chosen Option : 4

Q.14 उद्यम से ही सफलता मिलती है।
उपरोक्त वाक्य में रेखांकित शब्द के विलोम शब्द का चयन विकल्पों में से कीजिए।

- Ans
- 1. निरुद्यम
 - 2. उद्यमी
 - 3. नकारा
 - 4. प्रयत्न

Question ID : 26433079747

Status : Answered

Chosen Option : 2

Q.15 जिसको लॉघना कठिन हो।
ऊपर दिए गए वाक्यांश के लिए एक शब्द क्या होगा?

- Ans
- 1. दुर्लभ
 - 2. दुःसाध्य
 - 3. दुर्दम्य
 - 4. दुर्लघ्य

Question ID : 26433070058

Status : Answered

Chosen Option : 1

Comprehension:

निम्नलिखित गद्यांश में से कुछ शब्द हटा दिए गए हैं। दिए गए विकल्पों की सहायता से रिक्त स्थानों की पूर्ति कीजिए। प्रत्येक संख्या के लिए उपयुक्त विकल्प का चयन कीजिए।
एक बार बिल्ली ने उचककर दो में से 1. _____ अंडा तोड़ दिया। मेरी माँ ने 2. _____ तो उसे दुख हुआ। उसने स्टूल 3. _____ चढ़कर दूसरे अंडे को बचाने की कोशिश की। लेकिन 4. _____ कोशिश में दूसरा अंडा उसी के हाथ से गिरकर टूट 5. _____।

SubQuestion No : 16

Q.16 रिक्त स्थान 1 की पूर्ति के लिए सर्वाधिक उपयुक्त विकल्प का चयन कीजिए।

- Ans
- 1. पाँच
 - 2. तीन
 - 3. चार
 - 4. एक

Question ID : 26433079585

Status : Answered

Chosen Option : 4

Comprehension:

निम्नलिखित गद्यांश में से कुछ शब्द हटा दिए गए हैं। दिए गए विकल्पों की सहायता से रिक्त स्थानों की पूर्ति कीजिए। प्रत्येक संख्या के लिए उपयुक्त विकल्प का चयन कीजिए।
एक बार बिल्ली ने उचककर दो में से 1. _____ अंडा तोड़ दिया। मेरी माँ ने 2. _____ तो उसे दुख हुआ। उसने स्टूल 3. _____ चढ़कर दूसरे अंडे को बचाने की कोशिश की। लेकिन 4. _____ कोशिश में दूसरा अंडा उसी के हाथ से गिरकर टूट 5. _____।

SubQuestion No : 17

Q.17 रिक्त स्थान 2 की पूर्ति के लिए सर्वाधिक उपयुक्त विकल्प का चयन कीजिए।

- Ans 1. देखा
 2. पकड़ा
 3. सूँघा
 4. सोचा

Question ID : 26433079586

Status : Answered

Chosen Option : 1

Comprehension:

निम्नलिखित गद्यांश में से कुछ शब्द हटा दिए गए हैं। दिए गए विकल्पों की सहायता से रिक्त स्थानों की पूर्ति कीजिए। प्रत्येक संख्या के लिए उपयुक्त विकल्प का चयन कीजिए।
एक बार बिल्ली ने उचककर दो में से 1. _____ अंडा तोड़ दिया। मेरी माँ ने 2. _____ तो उसे दुख हुआ। उसने स्टूल 3. _____ चढ़कर दूसरे अंडे को बचाने की कोशिश की। लेकिन 4. _____ कोशिश में दूसरा अंडा उसी के हाथ से गिरकर टूट 5. _____।

SubQuestion No : 18

Q.18 रिक्त स्थान 3 की पूर्ति के लिए सर्वाधिक उपयुक्त विकल्प का चयन कीजिए।

- Ans 1. के लिए
 2. में
 3. तक
 4. पर

Question ID : 26433079587

Status : Answered

Chosen Option : 4

Comprehension:

निम्नलिखित गद्यांश में से कुछ शब्द हटा दिए गए हैं। दिए गए विकल्पों की सहायता से रिक्त स्थानों की पूर्ति कीजिए। प्रत्येक संख्या के लिए उपयुक्त विकल्प का चयन कीजिए।
एक बार बिल्ली ने उचककर दो में से 1. _____ अंडा तोड़ दिया। मेरी माँ ने 2. _____ तो उसे दुख हुआ। उसने स्टूल 3. _____ चढ़कर दूसरे अंडे को बचाने की कोशिश की। लेकिन 4. _____ कोशिश में दूसरा अंडा उसी के हाथ से गिरकर टूट 5. _____।

SubQuestion No : 19

Q.19 रिक्त स्थान 4 की पूर्ति के लिए सर्वाधिक उपयुक्त विकल्प का चयन कीजिए।

- Ans 1. इससे
 2. इसलिए
 3. इसकी
 4. इस

Question ID : 26433079588

Status : Answered

Chosen Option : 4

Comprehension:

निम्नलिखित गद्यांश में से कुछ शब्द हटा दिए गए हैं। दिए गए विकल्पों की सहायता से रिक्त स्थानों की पूर्ति कीजिए। प्रत्येक संख्या के लिए उपयुक्त विकल्प का चयन कीजिए।

एक बार बिल्ली ने उचककर दो में से 1. _____ अंडा तोड़ दिया। मेरी माँ ने 2. _____ तो उसे दुख हुआ। उसने स्टूल 3. _____ चढ़कर दूसरे अंडे को बचाने की कोशिश की। लेकिन 4. _____ कोशिश में दूसरा अंडा उसी के हाथ से गिरकर टूट 5. _____।

SubQuestion No : 20

Q.20 रिक्त स्थान 5 की पूर्ति के लिए सर्वाधिक उपयुक्त विकल्प का चयन कीजिए।

Ans 1. हुआ

2. गया

3. गए

4. गई

Question ID : 26433079589

Status : Answered

Chosen Option : 4

KD Job Updates

Constable GD in CAPFs SSF Rifleman GD in Assam Rifles and Sepoy in NCB Examination 2022

Roll Number	KD Job Updates
Candidate Name	KD Job Updates
Venue Name	iON Digital Zone iDZ 1 Patliputra
Exam Date	01/02/2023
Exam Time	2:30 PM - 3:30 PM
Subject	Constable GD Examination 2022

Section : Part-A-General Intelligence and Reasoning

Q.1 दिए गए विकल्पों में से उस अक्षर-समूह का चयन कीजिए जो निम्न श्रृंखला में प्रश्न-चिह्न (?) के स्थान पर आ सकता है।
GSLC, AMOF, UGRI, ? , IUXX

- Ans
- 1. DSTN
 - 2. OULC
 - 3. OAUL
 - 4. DPGE

Question ID : 26433074751

Status : Answered

Chosen Option : 3

Q.2 दिए गए समीकरण को संतुलित करने के लिए विकल्पों में दी गई किन दो संख्याओं(अंको को नहीं) को परस्पर बदलना होगा?
 $56 \div 16 \times 8 + 45 \times 13 = 697$

- Ans
- 1. 8 और 13
 - 2. 8 और 45
 - 3. 16 और 45
 - 4. 16 और 8

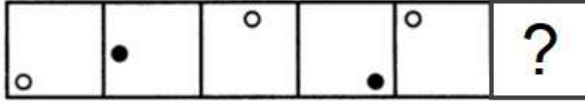
Question ID : 26433090136

Status : Answered

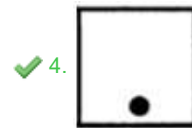
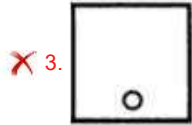
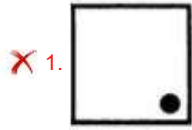
Chosen Option : 4

Q.3 दिए गए विकल्पों में से उस आकृति का चयन करें जो निम्नलिखित श्रृंखला में

प्रश्नवाचक चिह्न (?) का स्थान ले सकती है।



Ans



Question ID : 26433080503

Status : Answered

Chosen Option : 4

Q.4 निम्नलिखित में से कौन-सी संख्या दी गई श्रृंखला में प्रश्न-चिह्न (?) के स्थान पर आकर उसे पूर्ण करेगी?
125, 88, 63, 46, ?

Ans ✗ 1. 35

✗ 2. 37

✓ 3. 33

✗ 4. 38

Question ID : 26433069595

Status : Answered

Chosen Option : 3

Q.5 इस प्रश्न में तीन कथन दिए गए हैं, जिसके बाद दो निष्कर्ष I और II दिए गए हैं। कथनों को सत्य मानते हुए, भले ही वे सर्वज्ञात तथ्यों से भिन्न प्रतीत होते हों, निर्णय कीजिए कि कौन-सा/से निष्कर्ष कथनों का तार्किक रूप से अनुसरण करता है/अनुसरण करते हैं।

कथन:

सभी मोबाइल कंप्यूटर हैं।

कुछ कंप्यूटर फर्नीचर हैं।

कुछ फर्नीचर टेबल हैं।

निष्कर्ष:

I. कुछ टेबल कंप्यूटर हैं।

II. कुछ मोबाइल फर्नीचर हैं।

Ans 1. न तो निष्कर्ष I और न ही II अनुसरण करता है।

2. निष्कर्ष I और II दोनों अनुसरण करते हैं।

3. केवल निष्कर्ष I अनुसरण करता है।

4. केवल निष्कर्ष II अनुसरण करता है।

Question ID : 26433070387

Status : Answered

Chosen Option : 2

Q.6 एक निश्चित कूट भाषा में, 'EXAM' को '625214' और 'TEST' को '2162021' के रूप में लिखा जाता है। इसी कूट भाषा में 'ASSESSMENT' को किस प्रकार से लिखा जाएगा?

Ans 1. 22020620201461512

2. 22020620201461521

3. 22020620201465121

4. 22020602201461521

Question ID : 26433087254

Status : Answered

Chosen Option : 2

Q.7 छः विद्यार्थी एक वृत्ताकार मेज के परितः मेज के केंद्र की ओर मुख करके बैठे हैं। ब्रियाना, मार्क के दाईं ओर दूसरे स्थान पर बैठी है। फेलिक्स, मार्क के बाईं ओर दूसरे स्थान पर बैठा है। ऐन, ब्रियाना और फेलिक्स के ठीक बगल में है। जेम्स, ब्रियाना के बाईं ओर तीसरे स्थान पर बैठा है। आफरीन, जेम्स के दाईं ओर दूसरे स्थान पर बैठी है। आफरीन और ऐन के बीच में कौन बैठा है?

Ans 1. जेम्स

2. ब्रियाना

3. मार्क

4. फेलिक्स

Question ID : 26433081782

Status : Answered

Chosen Option : 3

Q.8 उस विकल्प का चयन करें, जो तीसरे शब्द से उसी प्रकार संबंधित है, जिस प्रकार दूसरा शब्द पहले शब्द से संबंधित है।
(शब्दों को अर्थपूर्ण शब्दों के रूप में माना जाना चाहिए और इन्हें शब्द में अक्षरों की संख्या / व्यंजनों की संख्या / स्वरों की संख्या के आधार पर एक दूसरे से संबद्ध नहीं किया जाना चाहिए।)
शिक्षा : अध्यापक :: उपचार : ?

Ans 1. चिकित्सक

2. दवाई

3. मजदूर

4. अस्पताल

Question ID : 26433079472

Status : Answered

Chosen Option : 1

Q.9 निम्नलिखित में से कौन-सा पद दी गई श्रृंखला में प्रश्न-चिह्न (?) के स्थान पर आएगा?
, LSEO, NRDN, PQCM, RPBL

Ans 1. JTFF

2. PFJO

3. TFPJ

4. FPJI

Question ID : 26433068983

Status : Answered

Chosen Option : 1

Q.10 नीचे दिए गए समीकरण को सही बनाने के लिए किन दो चिन्हों को गणितीय रूप से परस्पर बदलना चाहिए?

$$24 - 36 \times 5 + 108 \div 18 = 18$$

Ans 1. + और -

2. - और +

3. + और ×

4. + और ÷

Question ID : 264330117523

Status : Answered

Chosen Option : 3

Q.11 उस समुच्चय का चयन करें, जिसमें संख्याएँ उसी प्रकार संबंधित हैं, जिस प्रकार निम्नलिखित समुच्चयों की संख्याएँ हैं।

(नोट: संख्याओं को उसके घटक अंकों में विभाजित किए बिना, पूर्ण संख्याओं पर ही गणितीय संक्रियाएँ की जानी चाहिए। जैसे 13 - मान लीजिए 13 पर गणितीय संक्रियाएँ जैसे कि 13 में जोड़ना/घटाना/गुणा करना आदि किया जा सकता है। 13 को 1 और 3 में तोड़कर और फिर 1 और 3 पर गणितीय संक्रियाएँ करने की अनुमति नहीं है।)

(25, 280, 45)

(18, 192, 30)

Ans 1. (13, 168, 54)

2. (12, 148, 25)

3. (14, 192, 24)

4. (12, 156, 24)

Question ID : 26433076481

Status : Answered

Chosen Option : 4

Q.12 दर्पण को नीचे दिए गए चित्र के अनुसार MN पर रखे जाने पर दी गई आकृति

का दर्पण में निर्मित सही प्रतिबिंब चयनित कीजिए।

6 Z k B M V d

M ————— N

Ans

✗ 1. b V M B k Z e

✓ 2. e Z k B W Λ q

✗ 3. e Z k B W Λ q

✗ 4. e Z k B W Λ q

Question ID : 26433080798

Status : Answered

Chosen Option : 1

Q.13 एक निश्चित कूट भाषा में,
'A + B' का अर्थ है कि 'A, B की बहन है',
'A - B' का अर्थ है कि 'A, B का पिता है' और
'A x B' का अर्थ है कि 'A, B का भाई है'.
यदि Q + R - P x N - S है, तो R का S से क्या संबंध है?

Ans

✗ 1. ताऊ/चाचा

✗ 2. भाई

✗ 3. पिता

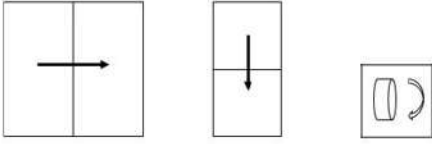
✓ 4. दादा

Question ID : 26433070370

Status : Answered

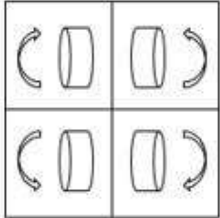
Chosen Option : 1

Q.14 एक कागज को नीचे दिखाये गए रूप में मोड़ा और काटा जाता है। खोलने पर यह कैसे दिखाई देगा?

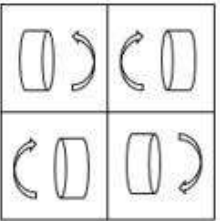


Ans

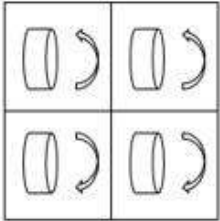
✓ 1.



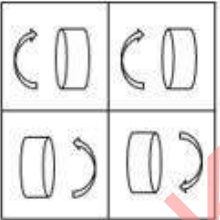
✗ 2.



✗ 3.



✗ 4.



Question ID : 26433089787

Status : Answered

Chosen Option : 3

Q.15 निम्नलिखित में से कौन-सी संख्या दी गई श्रृंखला में प्रश्न-चिह्न (?) के स्थान पर आएगी?
5, 31, 161, 811, ?

Ans ✗ 1. 4825

✓ 2. 4061

✗ 3. 4444

✗ 4. 4500

Question ID : 26433082010

Status : Answered

Chosen Option : 2

Q.16 किस विकल्प में निम्नलिखित शब्दों का वह क्रम दिया गया है, जिस क्रम में वे अंग्रेजी शब्दकोश में आते हैं?

- 1 riddle
- 2 river
- 3 rightful
- 4 ring
- 5 risk


- Ans
- 1. 1,2,4,5,3
 - 2. 1,3,4,5,2
 - 3. 1,2,3,4,5
 - 4. 1,3,2,4,5

Question ID : 26433069325

Status : Answered

Chosen Option : 2

Q.17 निम्नलिखित विकल्पों में से उस आकृति का चयन करें जिसमें नीचे दी गई आकृति निहित है (आकृति को घुमाने की अनुमति नहीं है)।

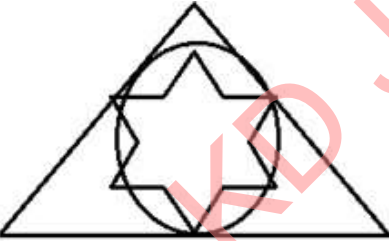


Ans

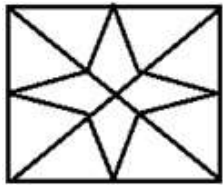
1.




2.



3.



4.



Question ID : 26433069535

Status : Answered

Chosen Option : 3

Q.18 एक निश्चित कूट भाषा में, FATHER को 'IFWMHW' लिखा जाता है, और SISTER को 'VNVYHW' लिखा जाता है। उसी कूट भाषा में 'UNCLE' को किस प्रकार लिखा जाएगा?

- Ans
- 1. XSHQI
 - 2. XSGQH
 - 3. XSFQH
 - 4. XTGRH

Question ID : 26433067989
Status : Answered
Chosen Option : 3

Q.19 एक ही परिवार के छः सदस्य विराज, दीपू, नूर, प्रिंस, सुमन और तारन एक वृत्ताकार मेज के परितः मेज के केंद्र की ओर मुख करके बैठे हैं। विराज, नूर के दाईं ओर ठीक बगल में बैठा है। प्रिंस, विराज और दीपू दोनों के ठीक बगल में बैठा है। सुमन, विराज के दाईं ओर तीसरे स्थान पर बैठी है। नूर, प्रिंस के बाईं ओर दूसरे स्थान पर बैठी है। इनमें से कौन दीपू और विराज के ठीक बगल में बैठा/बैठी है?

- Ans
- 1. तारन
 - 2. सुमन
 - 3. नूर
 - 4. प्रिंस

Question ID : 26433068866
Status : Not Answered
Chosen Option : --

Q.20 उस विकल्प का चयन कीजिए जो पांचवें अक्षर-समूह से उसी प्रकार संबंधित है जिस प्रकार दूसरा अक्षर-समूह पहले अक्षर-समूह से संबंधित है और चौथा अक्षर-समूह तीसरे अक्षर-समूह से संबंधित है।
TIDE: RRAU :: REST : PVPF :: GAME : ?

- Ans
- 1. EZJU
 - 2. TZNN
 - 3. HBNF
 - 4. ICOG

Question ID : 26433057485
Status : Not Answered
Chosen Option : --

Section : Part-B-General Knowledge and General awareness

Q.1 निम्नलिखित में से कौन सा तत्व अपने गुणों में क्षार धातुओं के साथ-साथ हैलोजन की तरह व्यवहार करता है?

- Ans
- 1. हीलियम
 - 2. लिथियम
 - 3. नियॉन
 - 4. हाइड्रोजन

Question ID : 264330115175
Status : Not Answered
Chosen Option : --

Q.2 भारत में जनगणना के संबंध में, NPR का पूर्ण रूप क्या है?

- Ans 1. National Population Register (नेशनल पोप्युलेशन रजिस्टर)
 2. National Population Record (नेशनल पोप्युलेशन रिकॉर्ड)
 3. National People Record (नेशनल पीपल रिकॉर्ड)
 4. National People Register (नेशनल पीपल रजिस्टर)

Question ID : 264330116030
Status : Answered
Chosen Option : 1

Q.3 निम्नलिखित में से किसने अक्टूबर 2022 में भारत के 2 दिवसीय पीएम किसान सम्मान सम्मेलन का उद्घाटन किया?

- Ans 1. राजनाथ सिंह
 2. नरेन्द्र मोदी
 3. निर्मला सीतारमण
 4. अमित शाह

Question ID : 264330114956
Status : Answered
Chosen Option : 3

Q.4 हर्षवर्धन और पुलकेशिन द्वितीय का युद्ध किस नदी के तट पर हुआ था?

- Ans 1. नर्मदा
 2. गोदावरी
 3. कृष्णा
 4. गंगा

Question ID : 26433089128
Status : Not Answered
Chosen Option : --

Q.5 भारत में दूसरी बार एशियाई खेलों का आयोजन किस वर्ष किया गया था?

- Ans 1. 1982
 2. 1941
 3. 1978
 4. 2015

Question ID : 264330116249
Status : Not Answered
Chosen Option : --

Q.6 माइक्रोफाइनेंस एक _____ सेवा है।

- Ans
- 1. सॉफ्टवेयर उत्पादन
 - 2. उत्पादन
 - 3. वित्तीय
 - 4. अपशिष्ट प्रबंधन

Question ID : 264330115310
Status : Not Answered
Chosen Option : --

Q.7 8 अगस्त, 2022 से प्रभावी, राष्ट्रीय अवसंरचना वित्तपोषण एवं विकास बैंक (NaBFID) के नए प्रबंध निदेशक कौन हैं?

- Ans
- 1. सुमिता डावरा
 - 2. पंकज जैन
 - 3. अरुण कुमार सिंह
 - 4. राजकिरण राय

Question ID : 264330115013
Status : Not Answered
Chosen Option : --

Q.8 सागा दावा मुख्य रूप से सिक्किम में भारत के निम्नलिखित में से किस समुदाय द्वारा मनाया जाता है?

- Ans
- 1. सिख
 - 2. बौद्ध
 - 3. हिंदू
 - 4. जैन

Question ID : 264330105968
Status : Not Answered
Chosen Option : --

Q.9 2018 में, मणिपुरी में संगीत नाटक अकादमी पुरस्कार किसने जीता?

- Ans
- 1. राधा श्रीधर
 - 2. मादम्बी सुब्रमण्यम नंबूदरी
 - 3. पसुमूर्ति रामलिंग शास्त्री
 - 4. अखम लक्ष्मी देवी

Question ID : 264330115821
Status : Not Answered
Chosen Option : --

Q.10 भूकंप की तीव्रता मापने के लिए किसका प्रयोग किया जाता है?

- Ans
- 1. ग्रेविमीटर
 - 2. एनीमोमीटर
 - 3. रिक्टर स्केल
 - 4. दाब सेंसर

Question ID : 264330115993
Status : Answered
Chosen Option : 3

Q.11 बिहू निम्नलिखित में से किस राज्य का लोकप्रिय नृत्य है?

- Ans
- 1. केरल
 - 2. तेलंगाना
 - 3. असम
 - 4. तमिलनाडु

Question ID : 26433071420
Status : Answered
Chosen Option : 3

Q.12 पौधों में स्वतंत्र रूप से संगठित संवाहक नलियों के रूप में कितने पथ निर्मित होते हैं?

- Ans
- 1. चार
 - 2. पांच
 - 3. एक
 - 4. दो

Question ID : 264330115204
Status : Not Answered
Chosen Option : --

Q.13 भारत में हरित क्रांति ने निम्नलिखित में से किसके उत्पादन में वृद्धि की?

- Ans
- 1. गेहूँ
 - 2. कोयले
 - 3. अंडे
 - 4. कपास

Question ID : 264330115418
Status : Answered
Chosen Option : 1

Q.14 10वीं पंचवर्षीय योजना की अवधि क्या थी?

- Ans
- 1. 2004-2009
 - 2. 2002-2007
 - 3. 2007-2012
 - 4. 2005-2010

Question ID : 264330116120
Status : Not Answered
Chosen Option : --

Q.15 हिंदुस्तान सोशललिस्ट रिपब्लिकन एसोसिएशन (HSRA) की स्थापना दिल्ली के _____ में हुई थी।

- Ans
- 1. मुगल गार्डन
 - 2. फिरोजशाह कोटला
 - 3. सफदरजंग का मकबरा
 - 4. लाल किला

Question ID : 26433089888
Status : Not Answered
Chosen Option : --

Q.16 शॉट पुट में, शॉट जो एक धातु की गेंद है, पुरुषों और महिलाओं के लिए उसका वजन कितना kg होता है?

- Ans
- 1. पुरुष- 7.26 kg महिला- 4 kg
 - 2. पुरुष- 7.5 kg महिला- 4.5 kg
 - 3. पुरुष- 7.3 kg महिला- 4.5 kg
 - 4. पुरुष - 7 kg महिला - 4 kg

Question ID : 264330115942
Status : Answered
Chosen Option : 2

Q.17 UPSC के सदस्यों का कार्यकाल _____ होता है।

- Ans
- 1. 5 वर्ष या 65 वर्ष की आयु
 - 2. 4 वर्ष या 62 वर्ष की आयु
 - 3. 6 वर्ष या 65 वर्ष की आयु जो भी पहले हो
 - 4. 6 वर्ष या 62 वर्ष की आयु

Question ID : 26433089963
Status : Not Answered
Chosen Option : --

Q.18 'देश की रक्षा करने और आह्वान किए जाने पर राष्ट्र की सेवा के लिए तत्पर रहने' का उल्लेख _____ के तहत किया गया है।

- Ans
- 1. मूल कर्तव्यों
 - 2. मूल अधिकारों
 - 3. निर्देशक सिद्धांतों
 - 4. संविधान की प्रस्तावना

Question ID : 264330115628
Status : Not Answered
Chosen Option : --

Q.19 मिशन इन्द्रधनुष का अंतिम लक्ष्य _____ वर्ष की आयु तक के बच्चों के लिए सभी उपलब्ध टीकों के साथ पूर्ण टीकाकरण सुनिश्चित करना है।

- Ans
- 1. तीन
 - 2. पांच
 - 3. दो
 - 4. आठ

Question ID : 264330116167
Status : Answered
Chosen Option : 2

Q.20 कौन सा क्षेत्र भारत में लगभग 60 प्रतिशत औषधालय (dispensaries) चलाता है?

- Ans
- 1. सहकारी क्षेत्र
 - 2. सार्वजनिक क्षेत्र
 - 3. संयुक्त क्षेत्र
 - 4. निजी क्षेत्र

Question ID : 264330115557
Status : Not Answered
Chosen Option : --

Section : Part-C-Elementary Mathematics

Q.1 एक खिलौना Rs.950 में खरीदा जाता है और Rs.1140 में बेचा जाता है। लाभ प्रतिशत ज्ञात कीजिए।

- Ans
- 1. 16%
 - 2. 21%
 - 3. 19%
 - 4. 20%

Question ID : 26433075144
Status : Answered
Chosen Option : 4

Q.2 वह सबसे बड़ी संख्या ज्ञात करें, जिससे 1780 और 2452 को विभाजित करने पर प्रत्येक स्थिति में 4 शेष बचता है।

- Ans
- 1. 24
 - 2. 48
 - 3. 16
 - 4. 52

Question ID : 26433081468
Status : Answered
Chosen Option : 2

Q.3 एक वस्तु को Rs.15,000 में बेचने पर, सुबीर को Rs.2,000 की हानि होती है। उसकी प्रतिशत हानि क्या है?

- Ans
- 1. 11%
 - 2. 10%
 - 3. $11\frac{13}{17}\%$
 - 4. $10\frac{13}{17}\%$

Question ID : 26433080305

Status : Answered

Chosen Option : 3

Q.4 25 छात्रों की एक कक्षा के भूगोल की परीक्षा में औसत अंक 64 हैं। यदि तीन छात्रों के अंकों को वास्तविक प्राप्तांक क्रमशः 54, 64 और 67 के स्थान पर गलती से 44, 46 और 61 पढ़ लिया गया है, तो सही औसत की गणना करें।

- Ans
- 1. 65.45
 - 2. 64.55
 - 3. 65.36
 - 4. 64.54

Question ID : 26433076220

Status : Answered

Chosen Option : 2

Q.5 यदि Rs.12,000 की राशि 2 वर्ष की अवधि के लिए 10% वार्षिक दर से वार्षिक और छमाही रूप से चक्रवृद्धि होती है, तो चक्रवृद्धि ब्याज में क्या अंतर होगा?
नोट: दशमलव को निकटतम पूर्णांक में लिखें।

- Ans
- 1. Rs.66
 - 2. Rs.46
 - 3. Rs.166
 - 4. Rs.196

Question ID : 26433075075

Status : Answered

Chosen Option : 3

Q.6 ₹x की धनराशि 3 वर्ष पहले 5% वार्षिक की चक्रवृद्धि ब्याज दर पर उधार ली गई थी, जहां ब्याज वार्षिक रूप से चक्रवृद्धि था। यदि उधार ली गई धनराशि का वर्तमान मान ₹18,522 है, तो x का मान क्या है?

- Ans
- 1. ₹16,000
 - 2. ₹15,000
 - 3. ₹15,500
 - 4. ₹16,500

Question ID : 26433075562

Status : Not Answered

Chosen Option : --

Q.7 एक गोल्फ क्लब में 90% सदस्य पुरुष हैं और शेष महिलाएं हैं। पुरुषों की औसत ऊंचाई 170 cm और महिलाओं की औसत ऊंचाई 165 cm है। क्लब के सदस्यों की औसत ऊंचाई ज्ञात कीजिये।

- Ans
- 1. 170.5
 - 2. 169.5
 - 3. 167.5
 - 4. 168.5

Question ID : 26433075905
Status : Answered
Chosen Option : 2

Q.8 25 प्रतिशत की छूट देने के बाद एक वस्तु का विक्रय मूल्य 9510 रूपए हो जाता है। वस्तु का अंकित मूल्य क्या है?

- Ans
- 1. 11640 रूपए
 - 2. 12680 रूपए
 - 3. 10850 रूपए
 - 4. 10200 रूपए

Question ID : 264330116736
Status : Answered
Chosen Option : 2

Q.9 रीता एक कार्य को 14 दिनों में कर सकती है और गीता उसी कार्य को 21 दिनों में कर सकती है। रीता और गीता उसी कार्य को एक साथ पूरा करने में कितने दिन लेंगी?

- Ans
- 1. 6.8
 - 2. 8.8
 - 3. 8.4
 - 4. 6.4

Question ID : 26433075700
Status : Answered
Chosen Option : 3

Q.10 एक घनाभ का कुल पृष्ठीय क्षेत्रफल 4200 cm^2 है। यदि घनाभ की लंबाई और चौड़ाई 15 cm और 16 cm है, तो घनाभ की ऊंचाई ज्ञात कीजिए।

- Ans
- 1. 60 cm
 - 2. 70 cm
 - 3. 62 cm
 - 4. 3720 cm

Question ID : 26433085494
Status : Answered
Chosen Option : 2

Q.11 $4 + 2\sqrt{3}$ और $6 - 3\sqrt{3}$ का मध्यानुपाती कितना है?

- Ans
- 1. $\sqrt{12}$
 - 2. $\sqrt{8}$
 - 3. $\sqrt{18}$
 - 4. $\sqrt{6}$

Question ID : 26433081026
Status : Not Answered
Chosen Option : --

Q.12 यदि पेट्रोल की कीमत में 40% की वृद्धि हो जाती है, तो इसकी खपत को कितने प्रतिशत (1 दशमलव स्थान तक पूर्णांकित) कम किया जाना चाहिए, ताकि पेट्रोल पर खर्च समान रहे?

- Ans
- 1. 25.7%
 - 2. 40.5%
 - 3. 35.5%
 - 4. 28.6%

Question ID : 26433082780
Status : Not Answered
Chosen Option : --

Q.13 दो संख्याओं का अनुपात 4 : 5 है और उनका महत्तम समापवर्तक 6 है। उनका लघुत्तम समापवर्तक क्या है?

- Ans
- 1. 168
 - 2. 120
 - 3. 72
 - 4. 88

Question ID : 26433091517
Status : Answered
Chosen Option : 2

Q.14 48 km/h की चाल से चलने वाली कार द्वारा 3 घंटे 15 मिनट में तय की गई दूरी ज्ञात कीजिए।

- Ans
- 1. 145 km
 - 2. 154 km
 - 3. 165 km
 - 4. 156 km

Question ID : 26433076199
Status : Answered
Chosen Option : 4

Q.15 टीना अपने वेतन का 30% भोजन पर, शेष का 30% ईंधन पर खर्च करती है और शेष Rs.4,900 बचाती है। टीना का वेतन क्या है?

- Ans
- 1. Rs.6,000
 - 2. Rs.10,000
 - 3. Rs.8,000
 - 4. Rs.12,000

Question ID : 26433076033
Status : Answered
Chosen Option : 2

Q.16 14 cm के व्यास वाले अर्धगोले का संपूर्ण पृष्ठीय क्षेत्रफल ज्ञात कीजिए। ($\pi = \frac{22}{7}$)

- Ans
- 1. 1232 cm²
 - 2. 308 cm²
 - 3. 2156 cm²
 - 4. 462 cm²

Question ID : 26433075747
Status : Answered
Chosen Option : 2

Q.17 दो संख्याएं P और Q इस प्रकार हैं कि P के 8% और Q के 4% का योग P के 5% और Q के 7% के योग का दो-तिहाई है। अनुपात P : Q ज्ञात करें।

- Ans
- 1. 7 : 1
 - 2. 4 : 9
 - 3. 2 : 5
 - 4. 1 : 7

Question ID : 26433081573
Status : Not Answered
Chosen Option : --

Q.18 ₹12,500 पर 10%, 15% और 4% की क्रमिक छूट किसके बराबर है?

- Ans
- 1. ₹3,320
 - 2. ₹4,150
 - 3. ₹5,240
 - 4. ₹4,520

Question ID : 26433080221
Status : Answered
Chosen Option : 3

Q.19 A एक कार्य को 18 दिनों में कर सकता है। B इस कार्य को 24 दिनों में कर सकता है। A अकेले काम शुरू करता है। कितने दिनों के बाद B को उसके साथ जुड़ना चाहिए, ताकि कार्य 15 दिनों में समाप्त हो जाए?

- Ans
- 1. 13 दिन
 - 2. 14 दिन
 - 3. 11 दिन
 - 4. 19 दिन

Question ID : 264330116851
Status : Answered
Chosen Option : 1

Q.20 सुमाति ने बिंदु A से बिंदु B तक 475 मीटर/मिनट की चाल से यात्रा की। जिस क्षण सुमाति बिंदु B पर पहुँची, रचना बिंदु B से उस चाल की 1.6 गुना चाल से रवाना हुई, जिस चाल से सुमाति ने यात्रा की थी और बिंदु C पर पहुँची। यदि B से होते हुए A से C से तक तय की गई कुल दूरी 45.6 km थी और जबसे सुमाति ने बिंदु A से चलना आरंभ किया और जब रचना बिंदु C पर पहुँची तब तक लिया गया समय 75 मिनट था, तो A और B के बीच की दूरी कितनी है?

- Ans
- 1. 19 km
 - 2. 17 km
 - 3. 18 km
 - 4. 20 km

Question ID : 26433075295
Status : Not Answered
Chosen Option : --

Section : Part-D-English

Q.1 Select the most appropriate option that can substitute the underlined segment in the given sentence.
I am been working here for the past ten years.

- Ans
- 1. have been working here
 - 2. was been working here
 - 3. is been working here
 - 4. having been working here

Question ID : 26433091372
Status : Not Answered
Chosen Option : --

Q.2 Select the INCORRECTLY spelt word.

- Ans
- 1. Potable
 - 2. Maticulous
 - 3. Erroneous
 - 4. Enterprising

Question ID : 26433073507
Status : Not Answered
Chosen Option : --

Q.3 Select the most appropriate meaning of the given idiom.

Public enemy number one

- Ans 1. Someone who is the greatest threat to a group or community
 2. One who helps the poor
 3. The opposition party leader
 4. A person who always smiles

Question ID : 26433072573
Status : Not Answered
Chosen Option : --

Q.4 Select the most appropriate option to substitute the underlined segment in the given sentence to make it a meaningful sentence. If no substitution is required, select 'No substitution'.

One must not only have the ability to read voraciously but have the necessary training in comprehending and remembering all the relevant details.

- Ans 1. not only have the ability for read voraciously but also have
 2. not only have the ability to read voraciously but also had
 3. not only have the ability to read voraciously but also have
 4. No substitution

Question ID : 26433092045
Status : Not Answered
Chosen Option : --

Q.5 Select the most appropriate option to fill in the blank.

Scientists are able to quickly _____ the outbreak through a new immunisation.

- Ans 1. quest
 2. quash
 3. scatter
 4. quench

Question ID : 26433060336
Status : Not Answered
Chosen Option : --

Q.6 Select the most appropriate ANTONYM of the given word.

Dignify

- Ans 1. Cure
 2. Adorn
 3. Oblige
 4. Condemn

Question ID : 26433090781
Status : Not Answered
Chosen Option : --

Q.7 Select the most appropriate synonym of the given word.

Fascinating

- Ans**
- 1. Revolting
 - 2. Dominating
 - 3. Intimidating
 - 4. Interesting

Question ID : 26433073982
Status : Not Answered
Chosen Option : --

Q.8 Select the word segment that substitutes (replaces) the bracketed word segment correctly and completes the sentence meaningfully:
Shakespeare was both a dramatist (better than) a poet.

- Ans**
- 1. and
 - 2. when not
 - 3. as well as
 - 4. or

Question ID : 26433088798
Status : Not Answered
Chosen Option : --

Q.9 Select the INCORRECTLY spelt word.

- Ans**
- 1. Frekquent
 - 2. Ferocious
 - 3. Collide
 - 4. Coherent

Question ID : 26433073731
Status : Not Answered
Chosen Option : --

Q.10 Select the most appropriate ANTONYM of the word given in brackets to fill in the blank.

The company of friends made her feel _____ (cranky), as she was all alone in her apartment.

- Ans**
- 1. awful
 - 2. wishful
 - 3. fearful
 - 4. cheerful

Question ID : 26433089747
Status : Not Answered
Chosen Option : --

Q.11 Select the most appropriate ANTONYM of the given word.
Symbolise

- Ans 1. Link
 2. Align
 3. Slide
 4. Hide

Question ID : 26433066088
Status : Not Answered
Chosen Option : --

Q.12 Select the most appropriate homophone to substitute the underlined word in the given sentence.

These ornaments are coated with gold.

- Ans 1. guild
 2. gilled
 3. gel
 4. gild

Question ID : 26433074013
Status : Not Answered
Chosen Option : --

Q.13 The given sentence is divided into three segments. Select the option that has the segment with a grammatical error. If there is no error, select 'no error' as your answer.

She have / left by the time / I reach home.

- Ans 1. She have
 2. I reach home
 3. left by the time
 4. No error

Question ID : 26433071860
Status : Not Answered
Chosen Option : --

Q.14 Select the most appropriate meaning of the given idiom.

Silver tongue

- Ans 1. Speaking to discourage people
 2. Speaking with an eloquent expression to convince people
 3. Speaking to annoy people
 4. Speaking to bore people

Question ID : 26433074442
Status : Not Answered
Chosen Option : --

Q.15 Select the most appropriate synonym of the given word.

Splendid

- Ans 1. Authentic
 2. Enticing
 3. Spectacular
 4. Stationary

Question ID : 26433087913

Status : Not Answered

Chosen Option : --

Comprehension:

In the following passage, some words have been deleted. Read the passage carefully and select the most appropriate option to fill in each blank.

The ability to think clearly and calmly while addressing an 1. _____ is neither inborn nor difficult to develop. The presence of an audience should act as a stimulus and not as a 2. _____ to thought. Audience fright can be overcome through training and practice. Even great speakers 3. _____ stage fright and self-consciousness. Every speaker gets worked up and experiences strain, shock, and excitement before he or she begins to talk. But every speaker who is struggling to gain 4. _____ should remember that all meritorious public speaking is accompanied by a little 5. _____.

SubQuestion No : 16

Q.16 Select the most appropriate option to fill in blank no. 1.

- Ans 1. adult
 2. audience
 3. association
 4. accomplice

Question ID : 26433091359

Status : Not Answered

Chosen Option : --

Comprehension:

In the following passage, some words have been deleted. Read the passage carefully and select the most appropriate option to fill in each blank.

The ability to think clearly and calmly while addressing an 1. _____ is neither inborn nor difficult to develop. The presence of an audience should act as a stimulus and not as a 2. _____ to thought. Audience fright can be overcome through training and practice. Even great speakers 3. _____ stage fright and self-consciousness. Every speaker gets worked up and experiences strain, shock, and excitement before he or she begins to talk. But every speaker who is struggling to gain 4. _____ should remember that all meritorious public speaking is accompanied by a little 5. _____.

SubQuestion No : 17

Q.17 Select the most appropriate option to fill in blank no. 2.

- Ans 1. choice
 2. briefing
 3. catch
 4. hindrance

Question ID : 26433091360

Status : Not Answered

Chosen Option : --

Comprehension:

In the following passage, some words have been deleted. Read the passage carefully and select the most appropriate option to fill in each blank.

The ability to think clearly and calmly while addressing an 1. _____ is neither inborn nor difficult to develop. The presence of an audience should act as a stimulus and not as a 2. _____ to thought. Audience fright can be overcome through training and practice. Even great speakers 3. _____ stage fright and self-consciousness. Every speaker gets worked up and experiences strain, shock, and excitement before he or she begins to talk. But every speaker who is struggling to gain 4. _____ should remember that all meritorious public speaking is accompanied by a little 5. _____.

SubQuestion No : 18

Q.18 Select the most appropriate option to fill in blank no. 3.

- Ans 1. accorded
 2. experience
 3. keened
 4. saved

Question ID : 26433091361

Status : Not Answered

Chosen Option : --

Comprehension:

In the following passage, some words have been deleted. Read the passage carefully and select the most appropriate option to fill in each blank.

The ability to think clearly and calmly while addressing an 1. _____ is neither inborn nor difficult to develop. The presence of an audience should act as a stimulus and not as a 2. _____ to thought. Audience fright can be overcome through training and practice. Even great speakers 3. _____ stage fright and self-consciousness. Every speaker gets worked up and experiences strain, shock, and excitement before he or she begins to talk. But every speaker who is struggling to gain 4. _____ should remember that all meritorious public speaking is accompanied by a little 5. _____.

SubQuestion No : 19

Q.19 Select the most appropriate option to fill in blank no. 4.

- Ans 1. money
 2. profit
 3. merit
 4. confidence

Question ID : 26433091362

Status : Not Answered

Chosen Option : --

Comprehension:

In the following passage, some words have been deleted. Read the passage carefully and select the most appropriate option to fill in each blank.

The ability to think clearly and calmly while addressing an 1. _____ is neither inborn nor difficult to develop. The presence of an audience should act as a stimulus and not as a 2. _____ to thought. Audience fright can be overcome through training and practice. Even great speakers 3. _____ stage fright and self-consciousness. Every speaker gets worked up and experiences strain, shock, and excitement before he or she begins to talk. But every speaker who is struggling to gain 4. _____ should remember that all meritorious public speaking is accompanied by a little 5. _____.

SubQuestion No : 20

Q.20 Select the most appropriate option to fill in blank no. 5.

- Ans 1. happiness
 2. trick
 3. nervousness
 4. childishness

Question ID : 26433091363

Status : Not Answered

Chosen Option : --

Section : Part-D-Hindi

Q.1 कौन से विकल्प में विशेषण से बने भाववाचक संज्ञा शब्दों में त्रुटि है?

- Ans 1. चतुरा, मीठा, दुर्बला
 2. गर्मी, सर्दी, नरमी
 3. लड़कपन, मित्रता, बुढ़ापा
 4. ममत्व, अपनापन, निकटता

Question ID : 26433063030

Status : Answered

Chosen Option : 1

Q.2 निम्नलिखित वाक्य में रेखांकित शब्द के स्थान पर उपयुक्त पर्यायवाची शब्द कौन-सा होगा?

बारिश के साथ ही दामिनी चमकने लगी।

- Ans 1. आंधी
 2. तड़ित
 3. बुँदे
 4. ओला

Question ID : 26433066901

Status : Answered

Chosen Option : 2

Q.3 आज क्रिकेट के खेल में साहिल ने _____ मार लिया।
रिक्त स्थान की पूर्ति उचित शब्द द्वारा करके मुहावरे को पूरा कीजिए।

- Ans
- 1. इनाम
 - 2. मन
 - 3. मैदान
 - 4. मक्खियाँ

Question ID : 26433062612
Status : Answered
Chosen Option : 3

Q.4 नीचे दिए शब्द के लिए उचित वाक्यांश दिए गए विकल्पों में से चुनिए।
अलौकिक

- Ans
- 1. जो इस लोक का न हो
 - 2. जिसका अस्तित्व अल्पकाल तक रहे
 - 3. जो इस लोक का हो
 - 4. जो कम जानता हो

Question ID : 26433062391
Status : Answered
Chosen Option : 1

Q.5 निम्नलिखित वाक्यांश के लिए उपयुक्त सार्थक शब्द है-
ईश्वर में विश्वास करने वाला

- Ans
- 1. आस्तिक
 - 2. इन्सान
 - 3. भगवान
 - 4. दैवीय

Question ID : 26433065750
Status : Answered
Chosen Option : 1

Q.6 श्री कृष्ण ने माँ यशोदा से खेलने के लिए विभाकर को खिलौने के रूप में माँगा।

वाक्य में प्रयुक्त शब्द विभाकर का पर्यायवाची शब्द है-

- Ans
- 1. चंद्रमा
 - 2. घोड़ा
 - 3. सिंह
 - 4. दानव

Question ID : 26433080858
Status : Answered
Chosen Option : 1

Q.7 'लंबोदर' शब्द के लिए उचित वाक्यांश है-

- Ans
- 1. जिसका हाथ लंबा हो
 - 2. जिसका उदर लंबा हो
 - 3. जिसकी गर्दन लंबी हो
 - 4. जिसका उधार लंबा हो

Question ID : 26433065870
Status : Answered
Chosen Option : 2

Q.8 निम्नलिखित में से अशुद्ध वाक्य कौन-सा है?

- Ans
- 1. वरुण प्रतिदिन घूमने जाता है।
 - 2. कल मैंने दिनभर पढ़ाई की।
 - 3. मेरे पर कृपा करो।
 - 4. मनाली अत्यंत सुन्दर शहर है।

Question ID : 26433085138
Status : Answered
Chosen Option : 3

Q.9 निम्नलिखित वाक्य के रिक्त स्थान में सबसे उपयुक्त मुहावरा क्या होगा?
'नेता बनना हो तो मंत्री जी के साथ _____ बन जाओ'

- Ans
- 1. अमरबेल
 - 2. पेड़
 - 3. दुश्मन
 - 4. दोस्त

Question ID : 26433066736
Status : Answered
Chosen Option : 4

Q.10 निम्नलिखित विकल्पों में से कौन सा एक वाक्य क्रिया-विशेषण से सम्बन्ध रखता है?

- Ans
- 1. हो सकता है आँधी आए।
 - 2. विश्व का कल्याण हो।
 - 3. डाकिया आता होगा।
 - 4. बुशरा यहाँ आ रही है।

Question ID : 26433062955
Status : Answered
Chosen Option : 3

Q.11 वाक्य में रेखांकित शब्द के स्थान पर सर्वोचित शब्द का चयन कीजिए।

प्रेम करना तलवार की नोक पर चलना है।

- Ans
- 1. म्यान
 - 2. चपलता
 - 3. धार
 - 4. मूठ

Question ID : 26433065696
Status : Answered
Chosen Option : 3

Q.12 'जड़' शब्द के विलोम से दिए गए वाक्य के रिक्त स्थान की पूर्ति कीजिए।

हमें अपने _____ मन से ईश्वर को अनुभव करना चाहिए।

- Ans
- 1. मधुर
 - 2. निम्न
 - 3. मूल
 - 4. चेतन

Question ID : 26433063088
Status : Answered
Chosen Option : 1

Q.13 वाक्य में रेखांकित शब्द को दिए गए शब्दों में से उचित शब्द से बदले।

इलाहाबाद के लोगों के आश्वासन पर यमुना नदी पर पुल बना दिया गया।

- Ans
- 1. आग्रह
 - 2. विनती
 - 3. प्रार्थना
 - 4. आदेश

Question ID : 26433074411
Status : Answered
Chosen Option : 1

Q.14 वर्तनीगत अशुद्धियाँ न रहने वाला वाक्य चुनिए।

- Ans
- 1. धूआँ का रंग काला है।
 - 2. बच्चों, मेरी बातों सुनों।
 - 3. उस कारखाना में बहुत मजदूर है।
 - 4. मैंने दस रुपये का दही खरीदा।

Question ID : 26433063065
Status : Answered
Chosen Option : 1

Q.15 सद् कार्यो को हमेशा समर्थन मिलता है और गलत का _____ होता है।

समर्थन के विलोम शब्द से वाक्य पूर्ण करें।

- Ans
- 1. असमंजस
 - 2. असहयोग
 - 3. विरोध
 - 4. असमर्थ

Question ID : 26433080875

Status : Answered

Chosen Option : 3

Comprehension:

निम्नलिखित गद्यांश में से कुछ शब्द हटा दिए गए हैं। दिए गए विकल्पों की सहायता से रिक्त स्थानों की पूर्ति कीजिए। प्रत्येक संख्या के लिए उपयुक्त विकल्प का चयन कीजिए।

दुनिया में अब 1. _____ करोड़ों 2. _____ छप चुकी हैं। हजारों पुस्तकें रोज़ छपती हैं। तरह-तरह 3. _____ अक्षरों में हजारों की तादाद में रोज़ 4. _____ समाचार-पत्र छपते रहते हैं। इन सबके मूल में 5. _____, अक्षर।

SubQuestion No : 16

Q.16 रिक्त स्थान 1 की पूर्ति के लिए सर्वाधिक उपयुक्त विकल्प का चयन कीजिए।

- Ans
- 1. सब
 - 2. से
 - 3. कब
 - 4. तक

Question ID : 26433079597

Status : Answered

Chosen Option : 2

Comprehension:

निम्नलिखित गद्यांश में से कुछ शब्द हटा दिए गए हैं। दिए गए विकल्पों की सहायता से रिक्त स्थानों की पूर्ति कीजिए। प्रत्येक संख्या के लिए उपयुक्त विकल्प का चयन कीजिए।

दुनिया में अब 1. _____ करोड़ों 2. _____ छप चुकी हैं। हजारों पुस्तकें रोज़ छपती हैं। तरह-तरह 3. _____ अक्षरों में हजारों की तादाद में रोज़ 4. _____ समाचार-पत्र छपते रहते हैं। इन सबके मूल में 5. _____, अक्षर।

SubQuestion No : 17

Q.17 रिक्त स्थान 2 की पूर्ति के लिए सर्वाधिक उपयुक्त विकल्प का चयन कीजिए।

- Ans
- 1. पुस्तकें
 - 2. पुस्तकों
 - 3. परिणाम
 - 4. पाठ

Question ID : 26433079598

Status : Answered

Chosen Option : 1

Comprehension:

निम्नलिखित गद्यांश में से कुछ शब्द हटा दिए गए हैं। दिए गए विकल्पों की सहायता से रिक्त स्थानों की पूर्ति कीजिए। प्रत्येक संख्या के लिए उपयुक्त विकल्प का चयन कीजिए।

दुनिया में अब 1. _____ करोड़ों 2. _____ छप चुकी हैं। हजारों पुस्तकें रोज़ छपती हैं। तरह-तरह 3. _____ अक्षरों में हजारों की तादाद में रोज़ 4. _____ समाचार-पत्र छपते रहते हैं। इन सबके मूल में 5. _____, अक्षर।

SubQuestion No : 18

Q.18 रिक्त स्थान 3 की पूर्ति के लिए सर्वाधिक उपयुक्त विकल्प का चयन कीजिए।

- Ans 1. के
 2. का
 3. में
 4. की

Question ID : 26433079599

Status : Answered

Chosen Option : 1

Comprehension:

निम्नलिखित गद्यांश में से कुछ शब्द हटा दिए गए हैं। दिए गए विकल्पों की सहायता से रिक्त स्थानों की पूर्ति कीजिए। प्रत्येक संख्या के लिए उपयुक्त विकल्प का चयन कीजिए।

दुनिया में अब 1. _____ करोड़ों 2. _____ छप चुकी हैं। हजारों पुस्तकें रोज़ छपती हैं। तरह-तरह 3. _____ अक्षरों में हजारों की तादाद में रोज़ 4. _____ समाचार-पत्र छपते रहते हैं। इन सबके मूल में 5. _____, अक्षर।

SubQuestion No : 19

Q.19 रिक्त स्थान 4 की पूर्ति के लिए सर्वाधिक उपयुक्त विकल्प का चयन कीजिए।

- Ans 1. भी
 2. तक
 3. भर
 4. ही

Question ID : 26433079600

Status : Answered

Chosen Option : 4

Comprehension:

निम्नलिखित गद्यांश में से कुछ शब्द हटा दिए गए हैं। दिए गए विकल्पों की सहायता से रिक्त स्थानों की पूर्ति कीजिए। प्रत्येक संख्या के लिए उपयुक्त विकल्प का चयन कीजिए।

दुनिया में अब 1. _____ करोड़ों 2. _____ छप चुकी हैं। हजारों पुस्तकें रोज़ छपती हैं। तरह-तरह 3. _____ अक्षरों में हजारों की तादाद में रोज़ 4. _____ समाचार-पत्र छपते रहते हैं। इन सबके मूल में 5. _____, अक्षर।

SubQuestion No : 20

Q.20 रिक्त स्थान 5 की पूर्ति के लिए सर्वाधिक उपयुक्त विकल्प का चयन कीजिए।

Ans

✓ 1. हैं

✗ 2. होती

✗ 3. होना

✗ 4. क्योंकि

Question ID : 26433079601

Status : Not Answered

Chosen Option : --

KD Job Updates

Constable GD in CAPFs SSF Rifleman GD in Assam Rifles and Sepoy in NCB Examination 2022

Roll Number	KD Job Updates
Candidate Name	KD Job Updates
Venue Name	iON Digital Zone iDZ Dohna
Exam Date	01/02/2023
Exam Time	5:15 PM - 6:15 PM
Subject	Constable GD Examination 2022

Section : Part-A-General Intelligence and Reasoning

Q.1 तीन कथनों के बाद दो निष्कर्ष दिए गए हैं। कथनों को सत्य मानते हुए, भले ही वे सामान्य रूप से ज्ञात तथ्यों से भिन्न प्रतीत होते हों, निर्णय करें कि कौन सा/से निष्कर्ष कथनों का तार्किक रूप से अनुसरण करता/करते है/हैं।

कथन:

सभी मेज लकड़ी हैं।

सभी लकड़ी पेंट हैं।

कोई पेंट स्टील नहीं है।

निष्कर्ष:

1. सभी स्टील लकड़ी हो सकते हैं।

2. कुछ पेंट स्टील हैं।

Ans 1. निष्कर्ष 1 और 2 दोनों अनुसरण करते हैं।

2. न तो निष्कर्ष 1 और न ही 2 अनुसरण करता है।

3. केवल निष्कर्ष 1 अनुसरण करता है।

4. केवल निष्कर्ष 2 अनुसरण करता है।

Question ID : 26433089422

Status : Answered

Chosen Option : 2

Q.2 निम्नलिखित में से कौन-सी संख्या दी गई श्रृंखला में प्रश्न चिह्न (?) के स्थान पर आएगी?
16, 23, 34, 47, 64, ?, 106

Ans 1. 90

2. 98

3. 83

4. 86

Question ID : 26433070216

Status : Answered

Chosen Option : 3

Q.3 छः मित्र M, N, O, P, Q और R एक सीधी पंक्ति में उत्तर की ओर मुख करके बैठे हैं। N के बाईं ओर केवल तीन व्यक्ति बैठे हैं। O, N के दाईं ओर ठीक बगल में बैठा है। M और P, Q के ठीक बगल में इस प्रकार बैठे हैं, कि M, O के बाईं ओर चौथे स्थान पर है। R कहां बैठा है?

- Ans
- 1. O के बाईं ओर तीसरे स्थान पर
 - 2. M के दाईं ओर ठीक बगल में
 - 3. P के दाईं ओर तीसरे स्थान पर
 - 4. N के बाईं ओर दूसरे स्थान पर

Question ID : 26433074526

Status : Not Answered

Chosen Option : --

Q.4 उस विकल्प का चयन कीजिए जो तीसरे शब्द से उसी प्रकार संबंधित है जिस प्रकार दूसरा शब्द पहले शब्द से संबंधित है। (शब्दों को अर्थपूर्ण शब्दों के रूप में मानना है और उन्हें शब्द में अक्षरों/व्यंजनों/स्वरों की संख्या के आधार पर एक-दूसरे से संबंधित नहीं करना है।)
अर्जेंटीना : पेसो :: जापान : ?


- Ans
- 1. येन
 - 2. क्रोना
 - 3. गिल्डर
 - 4. रियाल

Question ID : 26433067369

Status : Answered

Chosen Option : 1

Q.5 एक ही पासे की दो अलग-अलग स्थितियों को दर्शाया गया है जिस पर संख्या 1 से 6 का बिंदुओं के रूप में दर्शाया गया है। '5' दर्शाने वाले फलक के विपरीत फलक पर स्थित संख्या ज्ञात कीजिए।



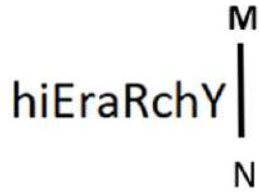
- Ans
- 1. 6
 - 2. 1
 - 3. 2
 - 4. 4

Question ID : 26433085524

Status : Answered

Chosen Option : 4

Q.6 दी गई आकृति के सही दर्पण प्रतिबिम्ब का चयन करें जब दर्पण को MN पर रखा जाए जैसा कि नीचे दर्शाया गया है।



Ans

✓ 1.

✗ 2.

✗ 3.

✗ 4.

Question ID : 26433085560

Status : Answered

Chosen Option : 1

Q.7 नीचे दिए गए समीकरण को गणितीय रूप से सही बनाने के लिए किन दो गणितीय चिह्नों को परस्पर बदलना चाहिए?

$$44 - 96 \times 4 \div 3 + 58 = 30$$

Ans ✓ 1. + और x

✗ 2. + और -

✗ 3. x और +

✗ 4. - और +

Question ID : 264330114195

Status : Answered

Chosen Option : 1

Q.8 कौन-सा अक्षर-समूह दी गई श्रृंखला में प्रश्नचिह्न (?) के स्थान पर आकर श्रृंखला को पूर्ण करेगा?
ACEG, BDFH, ?, DFHJ, EGIK

Ans ✗ 1. CEHI

✗ 2. CFHJ

✓ 3. CEGI

✗ 4. CDEF

Question ID : 26433067710

Status : Answered

Chosen Option : 3

Q.9 किस विकल्प में निम्नलिखित शब्दों का वह क्रम दिया गया है, जिस क्रम में वे अंग्रेजी शब्दकोश में आते हैं।

- 1 power
- 2 pour
- 3 powder
- 4 pointed
- 5 polite

- Ans
- 1. 4,2,5,3,1
 - 2. 4,2,3,1,5
 - 3. 4,3,5,2,1
 - 4. 4,5,2,3,1

Question ID : 26433069283

Status : Answered

Chosen Option : 4

Q.10 उस विकल्प का चयन करें, जो पाँचवीं संख्या से उसी प्रकार संबंधित है, जिस प्रकार दूसरी संख्या, पहली संख्या से संबंधित है और चौथी संख्या, तीसरी संख्या से संबंधित है।
15 : 4 :: 21 : 6 :: 42 : ?

- Ans
- 1. 8
 - 2. 12
 - 3. 11
 - 4. 13

Question ID : 26433069416

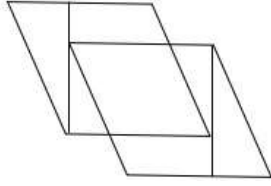
Status : Answered

Chosen Option : 4

KD Job Updates

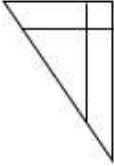
Q.11 वह विकल्प चित्र चुनिए, जो प्रस्तुत चित्र में अंतर्निहित है। (घुमाना अनुमन्य नहीं

है)

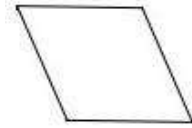


Ans

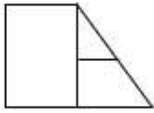
✗ 1.



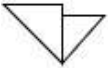
✓ 2.



✗ 3.



✗ 4.



Question ID : 26433069334

Status : Answered

Chosen Option : 2

KD Job Updates

Q.12 यदि श्रृंखला जारी रखनी है तो कौन-सी आकृति प्रश्न चिह्न (?) के स्थान पर

आएगी?

C	B	S	Z	4	B	S	C	?
	4		C		Z		4	
S		Z	4	B	S	C	Z	

Ans

✓ 1.

Z	B
	C
S	4

✗ 2.

Z	B
	S
4	C

✗ 3.

4	S
	C
B	Z

✗ 4.

C	S
	B
4	Z

KD Job Updates

Question ID : 26433076635

Status : Answered

Chosen Option : 1

Q.13 कौन-सा अक्षर-समूह दी गई श्रृंखला में प्रश्नचिह्न (?) के स्थान पर आकर श्रृंखला को पूर्ण करेगा?
CJEZ, ?, WFYV, TDVT, QBSR

Ans ✓ 1. ZHBX

✗ 2. BHAY

✗ 3. AGCX

✗ 4. BGAW

Question ID : 26433068039

Status : Answered

Chosen Option : 1

Q.14 एक निश्चित कूट भाषा में, 'ARGUE' को '22620926' और 'BEACH' को '1924262225' के रूप में लिखा जाता है। इसी कूट भाषा में 'ACCEL' को किस प्रकार से लिखा जाएगा?

- Ans
- 1. 1524242426
 - 2. 1252242426
 - 3. 1522242426
 - 4. 1522226426

Question ID : 26433069553
Status : Answered
Chosen Option : 3

Q.15 उस विकल्प का चयन कीजिए जो तीसरे शब्द से उसी प्रकार संबंधित है जिस प्रकार दूसरा शब्द पहले शब्द से संबंधित है। (शब्दों को अर्थपूर्ण शब्दों के रूप में मानना है और उन्हें शब्द में अक्षरों/व्यंजनों/स्वरों की संख्या के आधार पर एक-दूसरे से संबंधित नहीं करना है।)

सुनार : आभूषण :: मूर्तिकार : ?

- Ans
- 1. रेत
 - 2. रत्न
 - 3. संग्रहालय
 - 4. आवक्षमूर्ति

Question ID : 26433069582
Status : Answered
Chosen Option : 3

Q.16 नीचे दिए गए समीकरण को गणितीय रूप से सही बनाने के लिए किन संख्याओं(अंकों को नहीं) को परस्पर बदलना चाहिए?

$$108 \div 9 \times 16 + 12 - 27 = 126$$

- Ans
- 1. 27 और 9
 - 2. 16 और 9
 - 3. 12 और 27
 - 4. 9 और 12

Question ID : 264330117492
Status : Answered
Chosen Option : 4

Q.17 छह व्यक्ति J, K, L, M, N और O एक वृत्ताकार मेज के परितः केंद्र की ओर मुख करके बैठे हैं। J, N के दाईं ओर दूसरे स्थान पर बैठा है। O, M और J के ठीक बगल में बैठा है। K, L के बाईं ओर दूसरे स्थान पर बैठा है। O के दाईं ओर ठीक बगल में कौन बैठा है?

- Ans
- 1. L
 - 2. N
 - 3. M
 - 4. K

Question ID : 26433069479
Status : Not Answered
Chosen Option : --

Q.18 निम्न श्रंखला में प्रश्न-चिह्न (?) के स्थान पर कौन सी संख्या आएगी?
1, 5, ?, 25, 41, 61

- Ans
- 1. 8
 - 2. 10
 - 3. 13
 - 4. 12

Question ID : 26433067842
Status : Answered
Chosen Option : 3

Q.19 एक निश्चित कूट भाषा में, 'heart games' को 'alarm coffee' के रूप में कूटबद्ध किया जाता है, 'wrap' को 'bottle' के रूप में कूटबद्ध किया जाता है और 'wrap games' को 'bottle coffee' के रूप में कूटबद्ध किया जाता है। 'heart' के लिए कूट शब्द क्या होगा?

- Ans
- 1. alarm
 - 2. wrap
 - 3. coffee
 - 4. bottle

Question ID : 26433079365
Status : Answered
Chosen Option : 1

Q.20 'A + B' का अर्थ है 'B, A का पिता है'
'A - B' का अर्थ है 'B, A की माता है'
'A @ B' का अर्थ है 'B, A का भाई है'
'A * B' का अर्थ है 'B, A का पुत्र है'
यदि $A * B + C @ D - E$ है, तो E, A से किस प्रकार संबंधित है?

- Ans
- 1. सास
 - 2. बहन
 - 3. माता
 - 4. भाभी

Question ID : 26433068532
Status : Answered
Chosen Option : 1

Section : Part-B-General Knowledge and General awareness

Q.1 राष्ट्रीय स्तर की क्रिकेट चैंपियनशिप, रणजी ट्रॉफी, _____ में शुरू हुई थी।

- Ans
- 1. 1944-1945
 - 2. 1934-1935
 - 3. 1953-1954
 - 4. 1950-1951

Question ID : 26433089922
Status : Answered
Chosen Option : 2

Q.2 2013 का राष्ट्रीय खाद्य और सुरक्षा अधिनियम (NFSA2013) भारत की ग्रामीण आबादी के _____ को सब्सिडी वाला खाद्यान्न प्रदान करता है।

- Ans
- 1. 85%
 - 2. 65%
 - 3. 75%
 - 4. 95%

Question ID : 264330116156
Status : Not Answered
Chosen Option : --

Q.3 राधा श्रीधर ने 2018 में _____ में संगीत नाटक अकादमी पुरस्कार जीता।

- Ans
- 1. ओडिसी
 - 2. मणिपुरी
 - 3. कथक
 - 4. भरतनाट्यम

Question ID : 264330115876
Status : Answered
Chosen Option : 1

Q.4 किसने भारत के 50वें मुख्य न्यायाधीश के रूप में शपथ ली है?

- Ans
- 1. उदय उमेश ललित
 - 2. नुथलापति वेंकट रमण
 - 3. धनंजय यशवंत चंद्रचूड़
 - 4. शरद अरविंद बोबडे

Question ID : 264330114982
Status : Answered
Chosen Option : 3

Q.5 द्रोणाचार्य खेल पुरस्कार _____ को दिया जाता है।

- Ans
- 1. टीम के अध्यक्ष
 - 2. टीम के कप्तान
 - 3. टीम के सर्वश्रेष्ठ खिलाड़ी
 - 4. टीम के कोच

Question ID : 264330116290
Status : Answered
Chosen Option : 4

Q.6 शिशु देखभाल संस्थान का कोई भी प्रभारी या कार्यरत कोई भी व्यक्ति, जो बच्चे को शारीरिक दंड देता है, वह _____ के अंतर्गत उत्तरदायी होगा।

- Ans
- 1. किशोर न्याय अधिनियम
 - 2. हिंदू उत्तराधिकार अधिनियम
 - 3. हिन्दू दत्तक अधिनियम
 - 4. भारतीय अधिवक्ता अधिनियम

Question ID : 264330116222
Status : Answered
Chosen Option : 1

Q.7 नगरपालिकाओं की शक्तियां, प्राधिकार और उत्तरदायित्व किस अनुसूची के अंतर्गत आते हैं?

- Ans
- 1. 10वीं
 - 2. 13वीं
 - 3. 11वीं
 - 4. 12वीं

Question ID : 264330115614
Status : Answered
Chosen Option : 4

Q.8 पश्चिमी समशीतोष्ण चक्रवातों के कारण सर्दियों के महीनों में _____ की उपलब्धता रबी फसलों की सफलता में मदद करती है।

- Ans
- 1. पाले (frost)
 - 2. पवन (wind)
 - 3. कोहरे (fog)
 - 4. वर्षण (precipitation)

Question ID : 264330115526
Status : Answered
Chosen Option : 4

Q.9 निम्न में से कौन सा अपघटन का दूसरा चरण है?

- Ans
- 1. विखंडन
 - 2. ह्यूमसीभवन
 - 3. निक्षालन
 - 4. अपचय

Question ID : 264330115252
Status : Answered
Chosen Option : 1

Q.10 कौन सा भारतीय संगठन देश में गरीबी पर डेटा एकत्र करने के लिए जिम्मेदार है?

- Ans 1. राष्ट्रीय नमूना सर्वेक्षण संगठन
 2. नीति (NITI) आयोग
 3. राष्ट्रीय सामाजिक अधिकारिता संगठन
 4. भारतीय रजिस्ट्रार जनरल और जनगणना आयुक्त का कार्यालय

Question ID : 264330116076
Status : Answered
Chosen Option : 4

Q.11 सितंबर 1948 में, भारतीय सेना ने अपने हस्तक्षेप द्वारा किस रियासत पर अधिकार स्थापित कर लिया था?

- Ans 1. त्रिपुरा
 2. असम
 3. हैदराबाद
 4. उत्तर प्रदेश

Question ID : 264330115688
Status : Answered
Chosen Option : 3

Q.12 निम्नलिखित में से किस मौर्य राजा ने धम्म की अवधारणा को लोकप्रिय बनाया था?

- Ans 1. अशोक
 2. बिंदुसार
 3. चंद्रगुप्त
 4. दशरथ

Question ID : 264330115452
Status : Answered
Chosen Option : 1

Q.13 एक उपकरण, जो परिपथ में धारा की उपस्थिति का पता लगा सकता है, उसे _____ के रूप में जाना जाता है।

- Ans 1. ओडोमीटर
 2. स्पीडोमीटर
 3. एमीटर
 4. हाइग्रोमीटर

Question ID : 26433089647
Status : Answered
Chosen Option : 3

Q.14 किसी पर्वत के प्रतिपवन दिशा में स्थित शुष्क भूमि के क्षेत्र को क्या कहते हैं?

- Ans 1. वर्षा वंचित क्षेत्र
 2. पहाड़ी क्षेत्र
 3. अनुवात दिशा
 4. प्रतिपवन दिशा

Question ID : 264330115981
Status : Answered
Chosen Option : 1

Q.15 मई 2022 में किस राजनीतिक नेता ने पार्टी नेतृत्व के साथ मतभेदों के चलते भारतीय राष्ट्रीय कांग्रेस छोड़ दी?

- Ans 1. मल्लिकार्जुन खड़गे
 2. शशि थरूर
 3. कपिल सिब्बल
 4. सोनिया गांधी

Question ID : 264330114914
Status : Answered
Chosen Option : 1

Q.16 15 मार्च, 1950 को योजना आयोग का गठन _____ की अध्यक्षता में किया गया था।

- Ans 1. एपीजे अब्दुल कलाम
 2. सुभाष चंद्र बोस
 3. जवाहर लाल नेहरू
 4. इंदिरा गांधी

Question ID : 264330115380
Status : Answered
Chosen Option : 3

Q.17 मंत्रिपरिषद सामूहिक रूप से _____ के प्रति उत्तरदायी होती है।

- Ans 1. लोक सभा
 2. राज्यपाल
 3. जनता
 4. मुख्यमंत्री

Question ID : 26433086672
Status : Answered
Chosen Option : 3

Q.18 ऐसी सरकारी वस्तुएं और सेवाएं जो सीधे उपभोक्ताओं को नहीं बेची जाती हैं, उदाहरण के लिए रक्षा सामान, सड़कें निम्न में से किसके अंतर्गत वर्गीकृत की जाती हैं?

- Ans 1. सार्वजनिक वस्तुएं
 2. निजी वस्तुएं
 3. महंगी वस्तुएं
 4. अंतरराष्ट्रीय वस्तुएं

Question ID : 264330115279
Status : Answered
Chosen Option : 1

Q.19 असम में कितने प्रकार के बिहू उत्सव मनाए जाते हैं?

- Ans 1. 3
 2. 2
 3. 6
 4. 5

Question ID : 264330106203
Status : Answered
Chosen Option : 2

Q.20 कालजयी कृति, 'हस्तलक्षण दीपिका' किस भारतीय शास्त्रीय नृत्य शैली से संबंधित है?

- Ans 1. कुचिपुड़ी
 2. सत्रीया
 3. भरतनाट्यम
 4. कथकली

Question ID : 26433069902
Status : Answered
Chosen Option : 2

Section : Part-C-Elementary Mathematics

Q.1 एक तूफान में एक बगीचे के 300 पेड़ों में से 243 पेड़ स्थिर रह गए। पेड़ों की संख्या में प्रतिशत कमी क्या है?

- Ans 1. 19 प्रतिशत
 2. 22 प्रतिशत
 3. 21 प्रतिशत
 4. 24 प्रतिशत

Question ID : 264330116826
Status : Answered
Chosen Option : 1

Q.2

$$\frac{3126^{20} 21^{22} 23^{--}}{5}$$

का शेषफल ज्ञात कीजिए

- Ans
- 1. 0
 - 2. 1
 - 3. 4
 - 4. 2

Question ID : 26433080385

Status : Answered

Chosen Option : 2

Q.3 A की चाल B की चाल से 30% अधिक है। यदि A और B, 117 m लंबी दौड़ में दौड़ लगाते हैं, तो A को दौड़ की लंबाई का कितना भाग B को शुरुआती बढ़त के रूप में देना चाहिए, ताकि दौड़ बराबरी पर समाप्त हो सके?

- Ans
- 1. 117 m
 - 2. 90 m
 - 3. 36 m
 - 4. 27 m

Question ID : 26433080051

Status : Not Attempted and Marked For Review

Chosen Option : --

Q.4 एक व्यक्ति 8 घंटे में 320 kms ड्राइव करता है, 5 घंटे में 40 kms साइकिल चलाता है और फिर 7 घंटे में 40 kms चलता है। चालक की औसत गति ज्ञात करें।

- Ans
- 1. 22 kmph
 - 2. 22.22 kmph
 - 3. 18 kmph
 - 4. 20 kmph

Question ID : 264330116686

Status : Answered

Chosen Option : 4

Q.5 एक दुकानदार अपने माल को क्रय मूल्य पर 10 प्रतिशत की हानि पर बेचता है लेकिन 30 प्रतिशत कम वजन के बाट का उपयोग करता है। उसका लाभ क्या है?

Ans

✗ 1. $20\frac{3}{7}$ प्रतिशत

✗ 2. $25\frac{5}{7}$ प्रतिशत

✗ 3. $21\frac{4}{7}$ प्रतिशत

✓ 4. $28\frac{4}{7}$ प्रतिशत

Question ID : 26433079864

Status : Answered

Chosen Option : 4

Q.6 दो वर्ष पहले, एक शहर की जनसंख्या 66000 थी। पहले वर्ष में जनसंख्या में 5% की वृद्धि हुई और दूसरे वर्ष में 5% की कमी हुई। शहर की वर्तमान जनसंख्या ज्ञात कीजिए।

Ans

✗ 1. 65583

✗ 2. 63855

✓ 3. 65835

✗ 4. 68553

Question ID : 26433075196

Status : Answered

Chosen Option : 3

Q.7 15% और 25% की दो क्रमिक छूट के बराबर एकल छूट कितनी होगी?

Ans

✗ 1. $38\frac{1}{4}\%$

✓ 2. $36\frac{1}{4}\%$

✗ 3. $21\frac{1}{4}\%$

✗ 4. $26\frac{3}{4}\%$

Question ID : 26433061070

Status : Answered

Chosen Option : 2

Q.8 एक डीलर सभी गुड़ियों पर 20% की छूट प्रदान करता है। वह उन ग्राहकों को कम हुई कीमत पर 5% की अतिरिक्त छूट प्रदान करता है जो नकद भुगतान करते हैं। एक ग्राहक Rs.1,800 की कीमत वाली गुड़िया के लिए नकद में कितना भुगतान करेगा?

- Ans
- 1. Rs.1,225
 - 2. Rs.800
 - 3. Rs.1,532
 - 4. Rs.1,368

Question ID : 26433083041
Status : Answered
Chosen Option : 4

Q.9 Rs.500 को A, B, C और D में इस तरह से विभाजित कीजिये जिससे A और B की धनराशि मिलाकर, C और D को मिलाकर मिली धनराशि की तीन गुना हो, B की धनराशि C की धनराशि की 4 गुना हो और C की धनराशि D की धनराशि की 1.5 गुना हो। B के हिस्से का मान ज्ञात कीजिए।

- Ans
- 1. Rs.125
 - 2. Rs.75
 - 3. Rs.250
 - 4. Rs.300

Question ID : 26433076038
Status : Answered
Chosen Option : 1

Q.10 एक व्यक्ति के वेतन में पहले 40 प्रतिशत की कमी की जाती है और फिर 40 प्रतिशत की वृद्धि की जाती है। वेतन में प्रतिशत कमी क्या है?

- Ans
- 1. 15 प्रतिशत
 - 2. 16 प्रतिशत
 - 3. 18 प्रतिशत
 - 4. 12 प्रतिशत

Question ID : 26433079854
Status : Answered
Chosen Option : 2

Q.11 एक शंकाकार बर्तन के आधार की त्रिज्या 5 cm है और इसकी ऊंचाई 24 cm है। बर्तन पूरी तरह से पानी से भरा हुआ है। इस पानी को एक ऐसे बेलनाकार बर्तन में डाला जाता है जिसके आधार की त्रिज्या 10 cm है। बेलनाकार बर्तन में पानी की गहराई क्या होगी?

- Ans
- 1. 1 cm
 - 2. 4 cm
 - 3. 2 cm
 - 4. 3 cm

Question ID : 26433075213
Status : Not Answered
Chosen Option : --

Q.12 P उतना कार्य कर सकता है जितना Q और R मिलकर कर सकते हैं। P और Q मिलकर एक कार्य को 8 घंटे और 24 मिनट में कर सकते हैं और R इसे 42 घंटे में कर सकता है। वह समय (घंटों में) ज्ञात करें जो Q को अकेले कार्य करने के लिए चाहिए।

- Ans
- 1. 24 घंटे
 - 2. 20 घंटे
 - 3. 21 घंटे
 - 4. 22 घंटे

Question ID : 264330116906
Status : Not Answered
Chosen Option : --

Q.13 एक बेलन का कुल पृष्ठीय क्षेत्रफल ज्ञात कीजिए जिसकी ऊँचाई 8.5 mm और आधार व्यास 10 mm है।

- Ans
- 1. $85.5\pi \text{ mm}^2$
 - 2. $67.5\pi \text{ mm}^2$
 - 3. $135\pi \text{ mm}^2$
 - 4. $120\pi \text{ mm}^2$

Question ID : 26433080249
Status : Answered
Chosen Option : 2

Q.14 तीन साझेदार A, B और C ने एक व्यवसाय शुरू किया और लाभ को क्रमशः 2 : 3 : 5 के अनुपात में बाँटने का फैसला किया। यदि B का हिस्सा Rs.7,50,000 है, तो कुल लाभ की गणना कीजिए।

- Ans
- 1. Rs.27,00,000
 - 2. Rs.25,00,000
 - 3. Rs.20,00,000
 - 4. Rs.24,00,000

Question ID : 26433075976
Status : Answered
Chosen Option : 2

Q.15 एक निश्चित राशि पर 5 वर्षों में 7% वार्षिक की दर से Rs.4,016.25 का साधारण ब्याज प्राप्त होता है। मूल राशि ज्ञात कीजिए?

- Ans
- 1. Rs.10,475
 - 2. Rs.11,475
 - 3. Rs.11,400
 - 4. Rs.9,475

Question ID : 26433075237
Status : Answered
Chosen Option : 2

Q.16 प्रथम 4 प्राकृत संख्याओं के घन का औसत क्या होगा?

- Ans 1. 100
 2. 25
 3. 50
 4. 75

Question ID : 26433075718
Status : Answered
Chosen Option : 2

Q.17 यदि 6 पुरुष या 8 महिलाएं 21.5 दिनों में एक खेत की कटाई कर सकते हैं। 14 पुरुष और 10 महिलाएं इसे काटने में कितना समय लेंगे?

- Ans 1. 9 दिन
 2. 8 दिन
 3. 12 दिन
 4. 6 दिन

Question ID : 26433076209
Status : Answered
Chosen Option : 4

Q.18 192 और 480 का लघुत्तम समापवर्त्य X के 100 गुना से 60 अधिक है। X का मान क्या है?

- Ans 1. 18
 2. 12
 3. 6
 4. 9

Question ID : 264330116631
Status : Answered
Chosen Option : 4

Q.19 एक यात्रा में, ठहरावों को छोड़कर एक ट्रक की चाल 90 km/h है, और ठहरावों के साथ ट्रक की चाल 36 km/h है। वह ट्रक प्रति घंटे कितने मिनट के लिए रुकता है?

- Ans 1. 54 मिनट
 2. 40 मिनट
 3. 42 मिनट
 4. 36 मिनट

Question ID : 26433074939
Status : Answered
Chosen Option : 1

Q.20 रीता Rs.12,000 में एक खिलौना कार खरीदती है और उसे Rs.14,500 में बेच देती है। उसका लाभ प्रतिशत (दशमलव के बाद दो अंक तक पूर्णांकित) ज्ञात कीजिए।

- Ans 1. 20.83%
2. 14.50%
3. 22%
4. 18%

Question ID : 26433074920
Status : Answered
Chosen Option : 1

Section : Part-D-English

Q.1 Select the most appropriate word to complete the meaning of the sentence.

The new owners of the newspaper had changed the _____ completely.

- Ans 1. outlet
2. layout
3. outlay
4. outlook

Question ID : 26433088875
Status : Not Answered
Chosen Option : --

Q.2 The following sentence has been divided into parts. One of them may contain an error. Select the part that contains the error from the given options. If you don't find any error, mark 'No error' as your answer.

For the last three years, / Sunita had been running / private hostels near this university.

- Ans 1. For the last three years
2. No error
3. private hostels near this university
4. Sunita had been running

Question ID : 26433073763
Status : Not Answered
Chosen Option : --

Q.3 Identify from the following options the word which is OPPOSITE in meaning to the given word.
Opaque

- Ans 1. Intangible
2. Transparent
3. Shadowy
4. Reflector

Question ID : 26433088816
Status : Not Answered
Chosen Option : --

Q.4 Select the most appropriate option to fill in the blank.

The skeleton of an unknown person has been hanging on the tree _____ last Wednesday.

- Ans
- 1. about
 - 2. through
 - 3. for
 - 4. since

Question ID : 26433074364
Status : Not Answered
Chosen Option : --

Q.5 Select the most appropriate meaning of the underlined idiom in the given sentence.

The second wave of the pandemic left everyone in the doldrums.

- Ans
- 1. In low spirits and despair
 - 2. In deep sympathy
 - 3. In need of help
 - 4. In confusion

Question ID : 26433073759
Status : Not Answered
Chosen Option : --

Q.6 The sentence given below has one misspelt word. Spot the INCORRECTLY spelt word and select its correct spelling.

Too much bureacracy suppresses creativity.

- Ans
- 1. Burocracy
 - 2. Bureaukracy
 - 3. Bureaucracy
 - 4. Burreaukracy

Question ID : 26433073555
Status : Not Answered
Chosen Option : --

Q.7 Select the most appropriate synonym of the given word.

Hesitation

- Ans
- 1. Creativity
 - 2. Readiness
 - 3. Reluctance
 - 4. Prudence

Question ID : 26433073465
Status : Not Answered
Chosen Option : --

Q.8 Select the most appropriate option that can substitute the underlined segment in the given sentence.

She couldn't get over with Thomas due to his addiction to alcohol.

- Ans
- 1. get rid with Thomas due to
 - 2. get at with Thomas due to
 - 3. get along with Thomas due to
 - 4. get off with Thomas due to

Question ID : 264330100989
Status : Not Answered
Chosen Option : --

Q.9 Select the correct word for the blanks in the given sentence.

There is a provision of _____ delivery in every courier service whereas a child can _____ his feelings at the age of 2 years or so.

- Ans
- 1. normal
 - 2. slow
 - 3. express
 - 4. fast

Question ID : 26433060536
Status : Not Answered
Chosen Option : --

Q.10 Select the most appropriate ANTONYM of the underlined word in the following sentence.

His ancestors are native to this place.

- Ans
- 1. Community
 - 2. Innate
 - 3. Foreign
 - 4. Enemy

Question ID : 26433072240
Status : Not Answered
Chosen Option : --

Q.11 Select the INCORRECTLY spelt word.

- Ans
- 1. Doubtful
 - 2. Willfull
 - 3. Powerful
 - 4. Grateful

Question ID : 26433072458
Status : Not Answered
Chosen Option : --

Q.12 Select the most appropriate synonym of the given word.

Colossal

- Ans 1. Fantastic
 2. Immense
 3. Joyous
 4. Entertaining

Question ID : 26433088997
Status : Not Answered
Chosen Option : --

Q.13 Select the most appropriate ANTONYM of the given word.

Dream

- Ans 1. Fancy
 2. Imagination
 3. Delusion
 4. Reality

Question ID : 26433072208
Status : Not Answered
Chosen Option : --

Q.14 Select the most appropriate option that can substitute the underlined segment in the given sentence.

The mob broke up the norms of the country.

- Ans 1. disturb
 2. damaged
 3. violated
 4. invade

Question ID : 26433086464
Status : Not Answered
Chosen Option : --

Q.15 Select the most appropriate meaning of the given idiom.

Where the shoe pinches

- Ans 1. Tight fitting shoes
 2. Where the comfort is more
 3. Expensive shoes
 4. Where the difficulty lies

Question ID : 26433072221
Status : Not Answered
Chosen Option : --

Comprehension:

In the following passage, some words have been deleted. Read the passage carefully and select the most appropriate option to fill in each blank.

The life (1) _____ of a banana is a colourful one; it starts with a deep green, changes to a delicious yellow and ends at an unappetizing brown. Bananas, like most fruits, produce and (2) _____ with an airborne hormone called ethylene. This hormone helps to signal the ripening process. An unripe fruit is hard and acidic. It is likely to possess a greenish (3) _____ due to the presence of chlorophyll. When a fruit comes into contact (4) _____ ethylene, the acids in the fruit start to break down, it becomes softer and the green chlorophyll is (5) _____ and replaced, in the case of bananas, with a yellow hue.

SubQuestion No : 16

Q.16 Select the most appropriate option to fill in blank number 1.

Ans 1. span

2. cycle

3. story

4. time

Question ID : 26433072056

Status : Not Answered

Chosen Option : --

Comprehension:

In the following passage, some words have been deleted. Read the passage carefully and select the most appropriate option to fill in each blank.

The life (1) _____ of a banana is a colourful one; it starts with a deep green, changes to a delicious yellow and ends at an unappetizing brown. Bananas, like most fruits, produce and (2) _____ with an airborne hormone called ethylene. This hormone helps to signal the ripening process. An unripe fruit is hard and acidic. It is likely to possess a greenish (3) _____ due to the presence of chlorophyll. When a fruit comes into contact (4) _____ ethylene, the acids in the fruit start to break down, it becomes softer and the green chlorophyll is (5) _____ and replaced, in the case of bananas, with a yellow hue.

SubQuestion No : 17

Q.17 Select the most appropriate option to fill in blank number 2.

Ans 1. differ

2. correspond

3. tamper

4. react

Question ID : 26433072057

Status : Not Answered

Chosen Option : --

Comprehension:

In the following passage, some words have been deleted. Read the passage carefully and select the most appropriate option to fill in each blank.

The life (1) _____ of a banana is a colourful one; it starts with a deep green, changes to a delicious yellow and ends at an unappetizing brown. Bananas, like most fruits, produce and (2) _____ with an airborne hormone called ethylene. This hormone helps to signal the ripening process. An unripe fruit is hard and acidic. It is likely to possess a greenish (3) _____ due to the presence of chlorophyll. When a fruit comes into contact (4) _____ ethylene, the acids in the fruit start to break down, it becomes softer and the green chlorophyll is (5) _____ and replaced, in the case of bananas, with a yellow hue.

SubQuestion No : 18

Q.18 Select the most appropriate option to fill in blank number 3.

- Ans 1. hue
 2. fibre
 3. seed
 4. flesh

Question ID : 26433072058

Status : Not Answered

Chosen Option : --

Comprehension:

In the following passage, some words have been deleted. Read the passage carefully and select the most appropriate option to fill in each blank.

The life (1) _____ of a banana is a colourful one; it starts with a deep green, changes to a delicious yellow and ends at an unappetizing brown. Bananas, like most fruits, produce and (2) _____ with an airborne hormone called ethylene. This hormone helps to signal the ripening process. An unripe fruit is hard and acidic. It is likely to possess a greenish (3) _____ due to the presence of chlorophyll. When a fruit comes into contact (4) _____ ethylene, the acids in the fruit start to break down, it becomes softer and the green chlorophyll is (5) _____ and replaced, in the case of bananas, with a yellow hue.

SubQuestion No : 19

Q.19 Select the most appropriate option to fill in blank number 4.

- Ans 1. with
 2. from
 3. over
 4. by

Question ID : 26433072059

Status : Not Answered

Chosen Option : --

Comprehension:

In the following passage, some words have been deleted. Read the passage carefully and select the most appropriate option to fill in each blank.

The life (1) _____ of a banana is a colourful one; it starts with a deep green, changes to a delicious yellow and ends at an unappetizing brown. Bananas, like most fruits, produce and (2) _____ with an airborne hormone called ethylene. This hormone helps to signal the ripening process. An unripe fruit is hard and acidic. It is likely to possess a greenish (3) _____ due to the presence of chlorophyll. When a fruit comes into contact (4) _____ ethylene, the acids in the fruit start to break down, it becomes softer and the green chlorophyll is (5) _____ and replaced, in the case of bananas, with a yellow hue.

SubQuestion No : 20

Q.20 Select the most appropriate option to fill in blank number 5.

- Ans
- 1. brought to
 - 2. fallen into
 - 3. turned down
 - 4. broken up

Question ID : 26433072060

Status : Not Answered

Chosen Option : --

Section : Part-D-Hindi

Q.1 निम्नलिखित वाक्य में रेखांकित शब्द के विलोम शब्द का प्रयोग करके रिक्तस्थान की पूर्ति कीजिए-
बादल से वर्षा की सम्भावना कम ही होती है, स्याह बादल वर्षा के परिचायक हैं।

- Ans
- 1. श्याम
 - 2. अंधेरा
 - 3. काला
 - 4. सफेद

Question ID : 26433091346

Status : Answered

Chosen Option : 1

Q.2 'सुंदरी' के लिए पर्याय शब्द निम्न में से क्या होगा?

- Ans
- 1. भामा
 - 2. सुदर्शना
 - 3. वनिता
 - 4. रानी

Question ID : 26433069943

Status : Answered

Chosen Option : 1

Q.3 'जिस स्त्री के पुत्र और पति न हो' वाक्यांश के लिए इनमें से सही शब्द क्या है?

- Ans 1. अवीरा
 2. सधवा
 3. कबीरा
 4. विधवा

Question ID : 26433092245
Status : Answered
Chosen Option : 1

Q.4 'बरसात के चार महीने' वाक्यांश के लिए सार्थक शब्द है-

- Ans 1. बारहमासा
 2. चारमासा
 3. चौमासा
 4. बरसात

Question ID : 26433062227
Status : Answered
Chosen Option : 3

Q.5 निम्नलिखित वाक्य के किस खंड में अशुद्धि है?
महादेवी वर्मा बड़ी जीवंत कवयित्री थीं।

- Ans 1. जीवंत
 2. थीं
 3. कवयित्री
 4. बड़ी

Question ID : 26433066750
Status : Answered
Chosen Option : 3

Q.6 रीता ने समीर के स्वभाव के बारे में जो बात कही है, वह _____ आने सही है।
उपरोक्त वाक्य में रिक्त स्थान की पूर्ति उचित मुहावरे द्वारा कीजिए।

- Ans 1. बारह
 2. आठ
 3. चार
 4. सोलह

Question ID : 26433062616
Status : Answered
Chosen Option : 4

Q.7 निम्न वाक्य में रेखांकित अंश के लिए उचित मुहावरा दिए गए विकल्पों में से चुनिए।
बेटा अच्छे अंकों से पास हो गया, माँ के मन को शांति मिली।

- Ans 1. कलेजा ठंडा होना
 2. कलम तोड़ना
 3. कली खिलना
 4. काँटा दूर होना

Question ID : 26433062302
Status : Answered
Chosen Option : 1

Q.8 “जयेश ने खाना खाया।”
उपरोक्त वाक्य का अपूर्ण वर्तमानकाल में रूपांतरण क्या होगा?

- Ans 1. जयेश खाना खा रहा है।
 2. शायद जयेश खाना खा रहा हो।
 3. जयेश ने खाना खाया होगा।
 4. जयेश ने खाना खा रहा होगा।

Question ID : 26433066977
Status : Answered
Chosen Option : 1

Q.9 निम्नलिखित में से शुद्ध वाक्य है-

- Ans 1. मोहन श्याम की अपेक्षा शिष्ट है।
 2. मोहन श्याम की अपेक्षा सिष्ट है।
 3. मोहन श्याम की अपेक्ष शिष्ट है।
 4. मोहन श्याम की अपेक्षा सिस्टर है।

Question ID : 26433066840
Status : Answered
Chosen Option : 1

Q.10 निम्नलिखित शब्दों में से कौन सा शब्द अनेकार्थी शब्द है?

- Ans 1. मेंढक
 2. मुद्रा
 3. बोरा
 4. मोती

Question ID : 26433091317
Status : Answered
Chosen Option : 2

Q.11 निम्नलिखित वाक्यांश के लिए एक सार्थक शब्द क्या होगा?
जो इच्छा के अधीन है

- Ans
- 1. आंशिक
 - 2. अमानत
 - 3. ऐच्छिक
 - 4. आशातीत

Question ID : 26433069987
Status : Answered
Chosen Option : 3

Q.12 कौन से विकल्प में क्रमशः अकर्मक-सकर्मक क्रिया का सही युग्म दिया गया है।

- Ans
- 1. गिरना, देना
 - 2. खाना, लिखना
 - 3. बैठना, लेटना
 - 4. कहना, सोना

Question ID : 26433063046
Status : Answered
Chosen Option : 3

Q.13 "सुजय राघव को पुस्तक दिया।"
उपरोक्त वाक्य में कारक सम्बन्धी त्रुटि पहचानकर निम्नलिखित में से शुद्ध वाक्य का चयन कीजिए।

- Ans
- 1. सुजय राघव की पुस्तक दी।
 - 2. सुजय राघव की पुस्तक दिया।
 - 3. सुजय ने राघव का पुस्तक दिया।
 - 4. सुजय ने राघव को पुस्तक दी।

Question ID : 26433066964
Status : Answered
Chosen Option : 4

Q.14 निम्नलिखित वाक्य में रेखांकित एकार्थी शब्द युग्म का उपयुक्त अर्थ बताएं।
हमारे गाँव में पीपल के 'शाप्त-सप्त' पेड़ हैं।

- Ans
- 1. शापित-सात
 - 2. नापित-शापित
 - 3. शुभ-लाभ
 - 4. दो बार सात-सात

Question ID : 26433091331
Status : Answered
Chosen Option : 1

Q.15 आधुनिक लोग गोबर को कम महत्व देते हैं।
उपरोक्त वाक्य में 'गोबर' के बदले आप कौन सा पद प्रयोग करेंगे?

- Ans
- 1. कुसुम
 - 2. अक्षत
 - 3. तुलसी
 - 4. गोमय

Question ID : 26433062689
Status : Answered
Chosen Option : 4

Comprehension:

निम्नलिखित गद्यांश में कुछ शब्दों को हटा दिया गया है। दिए गए विकल्पों की सहायता से रिक्त स्थानों की पूर्ति कीजिए। प्रत्येक संख्या के लिए सबसे उपयुक्त विकल्प का चयन कीजिए।
भारत कृषि प्रधान 1. _____ है। यहाँ की अधिकांश जनता 2. _____ करती है। कृषि ही उसकी जीविका का साधन है और यही व्यवसाय है। कृषक आज भी 3. _____ में रहता है। यद्यपि कुछ दशकों से यह दिखाई दे रहा है कि भारत का किसान अपना व्यवसाय छोड़कर 4. _____ की ओर भाग रहा है। फिर भी नगर और गाँवों के बीच की भूमि पर आज भी 5. _____ होती है।

SubQuestion No : 16

Q.16 रिक्त स्थान 1 की पूर्ति के लिए सबसे उपयुक्त विकल्प का चयन कीजिए।

- Ans
- 1. क्षेत्र
 - 2. नगर
 - 3. देश
 - 4. राज्य

Question ID : 264330110981
Status : Answered
Chosen Option : 3

Comprehension:

निम्नलिखित गद्यांश में कुछ शब्दों को हटा दिया गया है। दिए गए विकल्पों की सहायता से रिक्त स्थानों की पूर्ति कीजिए। प्रत्येक संख्या के लिए सबसे उपयुक्त विकल्प का चयन कीजिए।
भारत कृषि प्रधान 1. _____ है। यहाँ की अधिकांश जनता 2. _____ करती है। कृषि ही उसकी जीविका का साधन है और यही व्यवसाय है। कृषक आज भी 3. _____ में रहता है। यद्यपि कुछ दशकों से यह दिखाई दे रहा है कि भारत का किसान अपना व्यवसाय छोड़कर 4. _____ की ओर भाग रहा है। फिर भी नगर और गाँवों के बीच की भूमि पर आज भी 5. _____ होती है।

SubQuestion No : 17

Q.17 रिक्त स्थान 2 की पूर्ति के लिए सबसे उपयुक्त विकल्प का चयन कीजिए।

- Ans
- 1. व्यवसाय
 - 2. खेती
 - 3. खेल
 - 4. नाटक

Question ID : 264330110982
Status : Answered
Chosen Option : 2

Comprehension:

निम्नलिखित गद्यांश में कुछ शब्दों को हटा दिया गया है। दिए गए विकल्पों की सहायता से रिक्त स्थानों की पूर्ति कीजिए। प्रत्येक संख्या के लिए सबसे उपयुक्त विकल्प का चयन कीजिए।
भारत कृषि प्रधान 1. _____ है। यहाँ की अधिकांश जनता 2. _____ करती है। कृषि ही उसकी जीविका का साधन है और यही व्यवसाय है। कृषक आज भी 3. _____ में रहता है। यद्यपि कुछ दशकों से यह दिखाई दे रहा है कि भारत का किसान अपना व्यवसाय छोड़कर 4. _____ की ओर भाग रहा है। फिर भी नगर और गाँवों के बीच की भूमि पर आज भी 5. _____ होती है।

SubQuestion No : 18

Q.18 रिक्त स्थान 3 की पूर्ति के लिए सबसे उपयुक्त विकल्प का चयन कीजिए।

- Ans
- 1. शहरों
 - 2. विश्व
 - 3. गाँवों
 - 4. देश

Question ID : 264330110983

Status : Answered

Chosen Option : 3

Comprehension:

निम्नलिखित गद्यांश में कुछ शब्दों को हटा दिया गया है। दिए गए विकल्पों की सहायता से रिक्त स्थानों की पूर्ति कीजिए। प्रत्येक संख्या के लिए सबसे उपयुक्त विकल्प का चयन कीजिए।
भारत कृषि प्रधान 1. _____ है। यहाँ की अधिकांश जनता 2. _____ करती है। कृषि ही उसकी जीविका का साधन है और यही व्यवसाय है। कृषक आज भी 3. _____ में रहता है। यद्यपि कुछ दशकों से यह दिखाई दे रहा है कि भारत का किसान अपना व्यवसाय छोड़कर 4. _____ की ओर भाग रहा है। फिर भी नगर और गाँवों के बीच की भूमि पर आज भी 5. _____ होती है।

SubQuestion No : 19

Q.19 रिक्त स्थान 4 की पूर्ति के लिए सबसे उपयुक्त विकल्प का चयन कीजिए।

- Ans
- 1. दूसरे देशों
 - 2. भूमि
 - 3. खेतों
 - 4. शहरों

Question ID : 264330110984

Status : Answered

Chosen Option : 4

Comprehension:

निम्नलिखित गद्यांश में कुछ शब्दों को हटा दिया गया है। दिए गए विकल्पों की सहायता से रिक्त स्थानों की पूर्ति कीजिए। प्रत्येक संख्या के लिए सबसे उपयुक्त विकल्प का चयन कीजिए।
भारत कृषि प्रधान 1. _____ है। यहाँ की अधिकांश जनता 2. _____ करती है। कृषि ही उसकी जीविका का साधन है और यही व्यवसाय है। कृषक आज भी 3. _____ में रहता है। यद्यपि कुछ दशकों से यह दिखाई दे रहा है कि भारत का किसान अपना व्यवसाय छोड़कर 4. _____ की ओर भाग रहा है। फिर भी नगर और गाँवों के बीच की भूमि पर आज भी 5. _____ होती है।

SubQuestion No : 20

Q.20 रिक्त स्थान 5 की पूर्ति के लिए सबसे उपयुक्त विकल्प का चयन कीजिए।

- Ans 1. पूछताछ
 2. देखरेख
 3. खेती
 4. खाद्यान्न

Question ID : 264330110985

Status : Answered

Chosen Option : 3

KD Job Updates

Constable GD in CAPFs SSF Rifleman GD in Assam Rifles and Sepoy in NCB Examination 2022

Roll Number	KD Job Updates
Candidate Name	KD Job Updates
Venue Name	New Age Technologies
Exam Date	02/02/2023
Exam Time	9:00 AM - 10:00 AM
Subject	Constable GD Examination 2022

Section : Part-A-General Intelligence and Reasoning

Q.1 सात व्यक्ति A, B, C, D, E, F और G एक सीधी पंक्ति में उत्तर की ओर मुख करके बैठे हैं। A बाईं ओर से दूसरे स्थान पर बैठा है। A और C के बीच केवल दो व्यक्ति बैठे हैं। D और F के बीच केवल तीन व्यक्ति बैठे हैं, और D, A के ठीक बगल में है। B, D के ठीक बगल में है, और E, C के ठीक बगल में नहीं है। A और G के बीच में कितने व्यक्ति बैठे हैं?

Ans 1.3

2.1

3.2

4.4

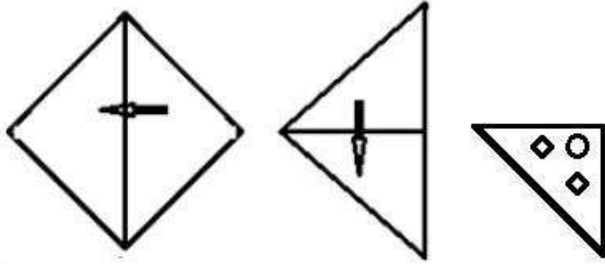
Question ID : 26433056934

Status : Answered

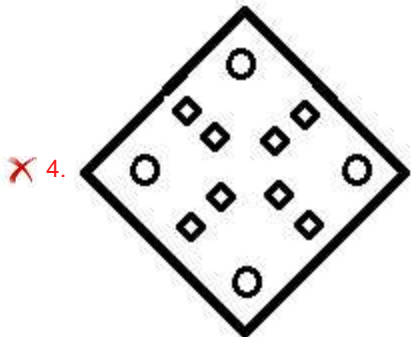
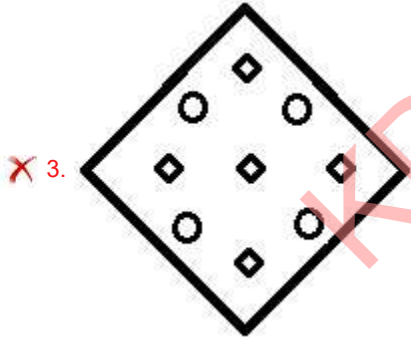
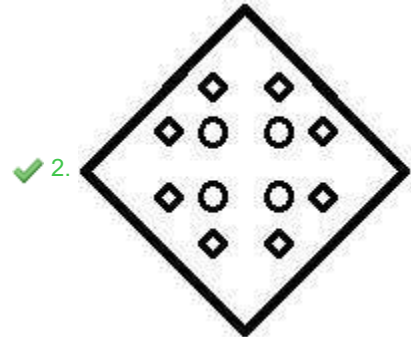
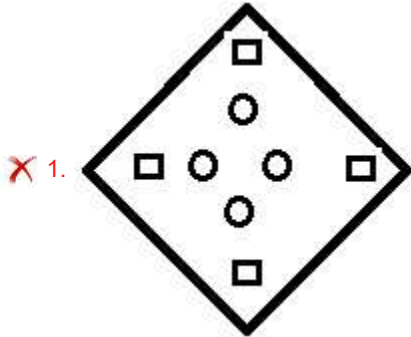
Chosen Option : 3

Q.2 एक कागज को नीचे दिखाए अनुसार मोड़ा और काटा गया है। कागज को खोलने

पर यह कैसा दिखाई देगा?



Ans



Question ID : 26433082339

Status : Answered

Chosen Option : 2

Q.3 उस विकल्प का चयन करें जो चौथे पद से उसी प्रकार संबंधित है, जिस प्रकार पहला पद दूसरे पद से और पांचवां पद छठे पद से संबंधित है।
18 : 45 :: ? : 60 :: 30 : 75

- Ans
- 1. 26
 - 2. 22
 - 3. 24
 - 4. 20

Question ID : 26433069098
Status : Not Answered
Chosen Option : --

Q.4 निम्नलिखित में से कौन-सा अक्षर-समूह दी गई श्रृंखला में प्रश्न-चिह्न (?) के स्थान पर आएगा?
XTEB, UQHE, RNKH, ?, LHQN

- Ans
- 1. OKOK
 - 2. OKNK
 - 3. PKOK
 - 4. PKNJ

Question ID : 26433076441
Status : Answered
Chosen Option : 2

Q.5 तीन कथनों के बाद तीन निष्कर्ष I, II और III दिए गए हैं। कथनों को सत्य मानते हुए, भले ही वे सामान्य रूप से ज्ञात तथ्यों से भिन्न प्रतीत होते हों, निर्धारित करें कि कौन-सा/से निष्कर्ष, कथनों का तार्किक रूप से अनुसरण करता है/करते हैं।

कथन:

सभी बिस्तर टेबल हैं।

सभी खाट टेबल हैं।

सभी टेबल नल हैं।

निष्कर्ष:

I. सभी खाट नल हैं।

II. कुछ नल टेबल हैं।

III. कुछ बिस्तर खाट हैं।

- Ans
- 1. केवल निष्कर्ष I और III अनुसरण करते हैं
 - 2. केवल निष्कर्ष I और II अनुसरण करते हैं
 - 3. केवल निष्कर्ष II और III अनुसरण करते हैं
 - 4. सभी निष्कर्ष अनुसरण करते हैं

Question ID : 26433082314
Status : Answered
Chosen Option : 2

Q.6 एक निश्चित कूट भाषा में, 'DEVOUR' को 'WGEQFT' और 'VARIED' को 'ECIKVF' के रूप में लिखा जाता है। उसी कूट भाषा में 'BLANKET' को किस प्रकार से लिखा जाएगा?

- Ans
- 1. ZYNPGPG
 - 2. YMZPQGH
 - 3. YNZPPGG
 - 4. ZNUMCHA

Question ID : 26433069463

Status : Answered

Chosen Option : 3

Q.7 यदि '-' का अर्थ 'भाग', '+' का अर्थ 'गुणा', 'x' का अर्थ 'जोड़' और '÷' का अर्थ 'घटाव' है, तो निम्नलिखित में से कौन सा समीकरण सही है?

- Ans
- 1. $20 + 6 - 4 \times 9 \div 6 = 32$
 - 2. $10 + 3 - 2 \times 9 \div 2 = 21$
 - 3. $10 \div 2 + 3 \div 9 \times 2 = 8$
 - 4. $20 - 4 + 6 \div 9 \times 4 = 25$

Question ID : 26433085660

Status : Answered

Chosen Option : 4

Q.8 किस विकल्प में निम्नलिखित शब्दों का वह क्रम दिया गया है, जिस क्रम में वे अंग्रेजी शब्दकोश में आते हैं?

- 1 pilot
- 2 pivot
- 3 pipette
- 4 pigeon
- 5 pigment

- Ans
- 1. 5,4,1,2,3
 - 2. 5,2,3,1,4
 - 3. 4,3,1,2,5
 - 4. 4,5,1,3,2

Question ID : 26433069314

Status : Answered

Chosen Option : 4

Q.9 उस विकल्प का चयन करें जो तीसरे पद से उसी तरह से संबंधित है, जिस तरह से दूसरा पद पहले पद से संबंधित है।

MEMBRANE : LDLAQZMD :: PRIVILEGE : ?

- Ans
- 1. GFDHUHKDFD
 - 2. QSHUHKDFD
 - 3. HGHUHKDFD
 - 4. OQHUHKDFD

Question ID : 26433067262

Status : Answered

Chosen Option : 4

Q.10 छः विद्यार्थी एक वृत्ताकार मेज के परितः मेज के केंद्र की ओर मुख करके बैठे हैं। F, A के ठीक बगल में है। D, E के दाईं ओर दूसरे स्थान पर बैठा है। B, E के ठीक बगल में है, और C के दाईं ओर दूसरे स्थान पर बैठा है। F, D के दाईं ओर दूसरे स्थान पर बैठा है। A, E के ठीक बगल में नहीं है। A के दाईं ओर से देखे जाने पर, E और A के बीच कौन बैठा है?

- Ans 1. F और C
 2. D और C
 3. F और B
 4. C और B

Question ID : 26433092768

Status : Answered

Chosen Option : 1

Q.11 एक फोटो को देखते हुए मारिया ने कहा "वह मेरी माँ की माँ की इकलौती बेटी है"। मारिया फोटो में दिख रहे व्यक्ति से किस प्रकार संबंधित है?

- Ans 1. बहन
 2. बुआ
 3. बेटी
 4. मौसी

Question ID : 26433074602

Status : Answered

Chosen Option : 3

Q.12 निम्नलिखित में से कौन-सी संख्या दी गई श्रृंखला में प्रश्न-चिह्न (?) की जगह पर आएगी?
1, 3, 6, ?, 20, 37

- Ans 1. 9
 2. 12
 3. 8
 4. 11

Question ID : 26433080720

Status : Answered

Chosen Option : 2

Q.13 कौन-सा अक्षर-समूह दी गई श्रृंखला में प्रश्नचिह्न (?) के स्थान पर आकर श्रृंखला को पूर्ण करेगा?
CPFG, ENHE, ?, IJLA, KHNY

- Ans 1. GLJC
 2. GLLC
 3. GLKD
 4. GLKC

Question ID : 26433068571

Status : Answered

Chosen Option : 1

Q.14 निम्न विकल्पों में से उस उत्तर आकृति का चयन करें जिसमें नीचे दी गई प्रश्न आकृति निहित है (आकृति घुमाने की अनुमति नहीं है)।

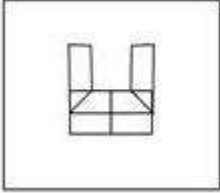


Ans

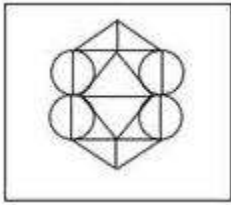
✗ 1.



✗ 2.



✓ 3.



✗ 4.



Question ID : 26433070208

Status : Answered

Chosen Option : 3

Q.15 निम्न में से कौन सी संख्या दी गई श्रृंखला में प्रश्नचिह्न (?) के स्थान पर आएगी?
10, 27, 78, 231, ?, 2067

Ans ✗ 1. 665

✗ 2. 656

✓ 3. 690

✗ 4. 640

Question ID : 26433076750

Status : Answered

Chosen Option : 3

Q.16 दी गई आकृति के सही दर्पण प्रतिबिम्ब का चयन करें जब दर्पण को MN पर रखा जाए जैसा कि नीचे दर्शाया गया है।

qUesTiOonnaiRe

Ans

- ✗ 1. QuesTiOonnaiRe
- ✗ 2. pUesTiOonnaiRe
- ✓ 3. QuesTiOonnaiRe
- ✗ 4. QuesTiOonnaiRe

Question ID : 26433085548
Status : Answered
Chosen Option : 3

Q.17 उस विकल्प का चयन करें, जो पांचवे अक्षर-समूह से उसी प्रकार संबंधित है, जिस प्रकार दूसरा अक्षर-समूह पहले अक्षर-समूह से संबंधित है, और चौथा अक्षर-समूह तीसरे अक्षर-समूह से संबंधित है।

ACBO : PCDB :: JLKM : NLMK :: KJIH : ?

Ans

- ✗ 1. JILK
- ✓ 2. IJKL
- ✗ 3. JIKL
- ✗ 4. IJLK

Question ID : 26433080464
Status : Answered
Chosen Option : 2

Q.18 एक कूट भाषा में 'dark colors' को 'yu nu', 'days are bright' को 'wu tu ku', 'nights are dark' को 'ku nu pu', 'paint bright' को 'wu ru' के रूप में कूटबद्ध किया जाता है। शब्द 'days' के लिए कूट क्या होगा?

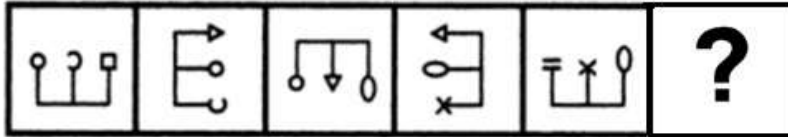
Ans

- ✗ 1. ku
- ✗ 2. ru
- ✓ 3. tu
- ✗ 4. wu

Question ID : 26433082273
Status : Answered
Chosen Option : 3

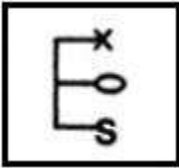
Q.19 दिए गए विकल्पों में से उस आकृति का चयन करें जो निम्नलिखित श्रृंखला में

प्रश्नवाचक चिह्न (?) का स्थान ले सकती है।

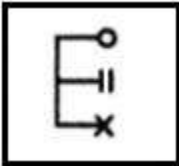


Ans

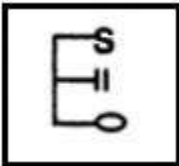
✗ 1.



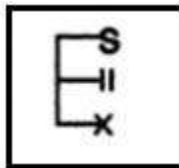
✗ 2.



✗ 3.



✓ 4.



Question ID : 26433080491

Status : Answered

Chosen Option : 1

Q.20 नीचे दिए गए समीकरण को गणितीय रूप से सही बनाने के लिए किन दो चिन्हों को परस्पर बदलना चाहिए?

$$54 + 18 \div 9 - 36 \times 16 = 88$$

Ans ✗ 1. + और +

✓ 2. × और +

✗ 3. + और ×

✗ 4. + और -

Question ID : 264330117537

Status : Answered

Chosen Option : 2

Q.1 निम्न में से कौन-सा नृत्य मध्य प्रदेश के मालवा क्षेत्र के ग्रामीण इलाकों की महिलाओं द्वारा किया जाता है?

- Ans
- 1. डांडिया रास
 - 2. थिरयट्टम
 - 3. पढ़यनि
 - 4. मटकी नृत्य

Question ID : 26433071690

Status : Answered

Chosen Option : 4

Q.2 खिलाड़ियों और उनके जन्म के राज्य/केंद्र शासित प्रदेश से संबंधित निम्नलिखित में से कौन सा एक गलत मिलान है?

- Ans
- 1. सानिया मिर्जा – महाराष्ट्र
 - 2. अंजुम चोपड़ा - नई दिल्ली
 - 3. मिताली राज – तमिलनाडु
 - 4. साइना नेहवाल - हरियाणा

Question ID : 26433089932

Status : Not Answered

Chosen Option : --

Q.3 भारतीय संविधान के 101वें संविधान संशोधन अधिनियम ने निम्न प्रणाली की शुरुआत की:

- Ans
- 1. एक देश, एक आय'
 - 2. एक देश, एक कर'
 - 3. एक व्यक्ति, एक कर'
 - 4. एक व्यक्ति, एक दर'

Question ID : 264330116210

Status : Answered

Chosen Option : 2

Q.4 कोशिकाद्रव्य में राइबोसोम, माइटोकॉन्ड्रिया और गॉल्जीकाय जैसे _____ होते हैं।

- Ans
- 1. अंग
 - 2. कोश
 - 3. कोशिकांग
 - 4. ऊतक

Question ID : 264330115243

Status : Answered

Chosen Option : 3

Q.5 निम्नलिखित चार में से तीन व्यापार के लिए सहायक हैं, और अतः एक समूह बनाते हैं। वह कौन-सा है, जो उस समूह से संबंधित नहीं है?

- Ans
- 1. परिवहन
 - 2. कृषि
 - 3. भंडारण (Warehousing)
 - 4. बीमा (Insurance)

Question ID : 264330115571

Status : Answered

Chosen Option : 4

Q.6 गौतम बुद्ध के भक्तों द्वारा मनाई जाने वाली बुद्ध पूर्णिमा, हिंदू माह _____ में मनाई जाती है।

- Ans
- 1. माघ
 - 2. फाल्गुन
 - 3. वैशाख
 - 4. चैत्र

Question ID : 264330115121

Status : Answered

Chosen Option : 2

Q.7 सुनंदा नायर ने मुंबई विश्वविद्यालय से _____ नृत्य शैली में PhD पूर्ण की। उनकी थीसिस "इंट्रिंसिक लिरिकल फेमिनिज्म" में था।

- Ans
- 1. कुचिपुड़ी
 - 2. कथकली
 - 3. मोहिनीअट्टम
 - 4. भरतनाट्यम

Question ID : 264330115864

Status : Answered

Chosen Option : 3

Q.8 बजरंग पुनिया ने किस टूर्नामेंट में दौलत नियाजबेकोव को हराकर कांस्य पदक जीता था?

- Ans
- 1. टोक्यो ओलंपिक 2020
 - 2. एशियाई खेल 2014
 - 3. राष्ट्रमंडल खेल 2014
 - 4. लंदन ओलंपिक 2012

Question ID : 264330116278

Status : Answered

Chosen Option : 1

Q.9 निम्नलिखित में से कौन वाकाटक राजवंश के संस्थापक थे?

- Ans
- 1. प्रवरसेन द्वितीय
 - 2. प्रवरसेन प्रथम
 - 3. विंध्यशक्ति
 - 4. प्रभावतीगुप्त

Question ID : 264330115463

Status : Not Answered

Chosen Option : --

Q.10 विकास की स्थिति के आधार पर संसाधनों का वर्गीकरण किस प्रकार किया जाता है?

- Ans
- 1. वैयक्तिक, अंतरराष्ट्रीय और राष्ट्रीय
 - 2. संभावित, विकसित स्टॉक और संचित कोष
 - 3. नवीकरणीय और गैर-नवीकरणीय
 - 4. जैविक और अजैविक

Question ID : 26433087887

Status : Answered

Chosen Option : 3

Q.11 भारतीय संविधान के किस अनुच्छेद के तहत मौलिक कर्तव्यों को परिभाषित किया गया है?

- Ans
- 1. 50A
 - 2. 53A
 - 3. 51A
 - 4. 52A

Question ID : 26433089950

Status : Answered

Chosen Option : 3

Q.12 करेंसी नोट और सिक्कों को कागज़ी मुद्रा कहते हैं। इन्हें _____ भी कहा जाता है।

- Ans
- 1. पट्टा विलेख
 - 2. कानूनी निविदा
 - 3. ऋण विलेख
 - 4. कानूनी अनुबंध

Question ID : 264330115324

Status : Answered

Chosen Option : 2

Q.13 वाशिंग सोडा का रासायनिक सूत्र _____ है।

- Ans
- 1. Na_2SO_4
 - 2. $\text{Ca}(\text{OH})_2$
 - 3. $\text{Na}_2\text{CO}_3 \cdot 10\text{H}_2\text{O}$
 - 4. NaHCO_3

Question ID : 26433089648
Status : Not Answered
Chosen Option : --

Q.14 पश्चिम बंगाल किस देश के साथ अपनी सबसे लंबी सीमा साझा करता है?

- Ans
- 1. भूटान
 - 2. बांग्लादेश
 - 3. म्यांमार
 - 4. नेपाल

Question ID : 264330116102
Status : Answered
Chosen Option : 2

Q.15 निम्नलिखित में से कौन सार्वजनिक क्षेत्र की कंपनी का उदाहरण नहीं है?

- Ans
- 1. सेल (SAIL)
 - 2. एनएसई (NSE)
 - 3. ओएनजीसी (ONGC)
 - 4. भेल (BHEL)

Question ID : 26433054785
Status : Not Answered
Chosen Option : --

Q.16 विनिर्मित वस्तुओं का निर्यात, व्यापार और वाणिज्य को _____ है।

- Ans
- 1. फैलाता
 - 2. संकुचित करता
 - 3. कम करता
 - 4. कमजोर करता

Question ID : 264330115409
Status : Not Answered
Chosen Option : --

Q.17 नवंबर 2022 तक की स्थिति के अनुसार, भारत में एक राजनीतिक दल, राष्ट्रवादी कांग्रेस पार्टी के अध्यक्ष कौन हैं?

- Ans
- 1. सुप्रिया सुले
 - 2. एकनाथ शिंदे
 - 3. नवाब मलिक
 - 4. शरद पवार

Question ID : 264330114945

Status : Answered

Chosen Option : 2

Q.18 1928 में, दिल्ली में फिरोजशाह कोटला मैदान में एक बैठक में _____ की स्थापना की गई थी। इसके नेताओं में भगत सिंह, जतिन दास और अजय घोष थे।

- Ans
- 1. कबुई नागा एसोसिएशन
 - 2. आल इंडिया डिप्रेस्ड क्लासेस एसोसिएशन
 - 3. हिन्दुस्तान सोशलिस्ट रिपब्लिकन एसोसिएशन
 - 4. मद्रास प्रेसीडेंसी एसोसिएशन

Question ID : 264330115705

Status : Answered

Chosen Option : 3

Q.19 नवंबर 2022 में, भारत के विधि आयोग के अध्यक्ष के रूप में किसे नियुक्त किया गया?

- Ans
- 1. न्यायमूर्ति रवि आर त्रिपाठी
 - 2. न्यायमूर्ति ऋतुराज अवस्थी
 - 3. एस. शिव कुमार
 - 4. एन. के. सिंह

Question ID : 264330115027

Status : Not Answered

Chosen Option : --

Q.20 निम्नलिखित में से कौन सा कथन भारत के संसद के संयुक्त सत्र के बारे में सही नहीं है?

- Ans
- 1. अब तक दोनों सदनों की संयुक्त बैठक तीन मौकों पर हो चुकी है।
 - 2. राज्य सभा के सभापति (उपराष्ट्रपति) संयुक्त सत्र की अध्यक्षता करते हैं।
 - 3. राष्ट्रपति संयुक्त सत्र के लिए दोनों सदनों की बैठक बुला सकता है।
 - 4. संसद के दोनों सदनों के बीच गतिरोध को दूर करने के लिए संयुक्त सत्र का आयोजन किया जाता है।

Question ID : 26433079562

Status : Answered

Chosen Option : 4

Q.1 1000 m की दौड़ में, जॉन ने खान को 120 m से हराया। यदि जॉन की चाल 40 km/h है, तो खान की चाल क्या होगी?

- Ans
- 1. 28.5 km/h
 - 2. 35.2 km/h
 - 3. 27 km/h
 - 4. 38.7 km/h

Question ID : 26433061169

Status : Answered

Chosen Option : 2

Q.2 2010 में एक देश की जनसंख्या 256080000 थी। 2020 तक जनसंख्या में 10 प्रतिशत की वृद्धि हो गई थी। 2020 में जनसंख्या है:

- Ans
- 1. 275040000
 - 2. 281688000
 - 3. 266050000
 - 4. 291475000

Question ID : 264330116814

Status : Answered

Chosen Option : 2

Q.3 6 cm भुजा वाले एक घन से काट कर निकाले जा सकने वाले सबसे बड़े गोले का आयतन क्या होगा?

- Ans
- 1. 113.14 cm³
 - 2. 102.26 cm³
 - 3. 115.13 cm³
 - 4. 112.15 cm³

Question ID : 26433066328

Status : Not Answered

Chosen Option : --

Q.4 एक अर्धगोलाकार कटोरा मोटे स्टील से बना है जिसकी मोटाई 0.5 cm है। यदि कटोरे का बाहरी व्यास 43 cm है, तो कटोरे की धारिता (capacity) ज्ञात कीजिए। ($\pi = \frac{22}{7}$ का उपयोग कीजिए)

- Ans
- 1. 38808 cm³
 - 2. 77616 cm³
 - 3. 3696 cm³
 - 4. 19404 cm³

Question ID : 26433087409

Status : Not Answered

Chosen Option : --

Q.5 एक मोबाइल फोन का अंकित मूल्य ₹16,500 है। इस पर 8% की ल्यौहार छूट दी जाती है। इसके अलावा, नकद भुगतान के लिए 5% की दूसरी छूट दी जाती है। मोबाइल फोन खरीदने के लिए किया जाने वाला नकद भुगतान, रुपये में, कितना है?

- Ans
- 1. ₹14,872
 - 2. ₹14,421
 - 3. ₹14,512
 - 4. ₹14,671

Question ID : 26433092168

Status : Answered

Chosen Option : 2

Q.6 एक कार की कीमत में क्रमिक रूप से क्रमशः 5%, 10% और 20% की वृद्धि होती है। कीमत में समतुल्य परिवर्तन क्या है?

- Ans
- 1. $34\frac{4}{5}\%$
 - 2. $32\frac{1}{5}\%$
 - 3. $33\frac{3}{5}\%$
 - 4. $38\frac{3}{5}\%$

Question ID : 26433076071

Status : Answered

Chosen Option : 4

Q.7 एक महिला 75 km/h की चाल से कार द्वारा एक निश्चित दूरी तय करती है और तुरंत उसी कार से 100 km/h की चाल से प्रारंभिक बिंदु पर लौट आती है। कार की औसत चाल क्या है?

- Ans
- 1. $86\frac{3}{7}$ km/h
 - 2. $85\frac{5}{7}$ km/h
 - 3. $95\frac{2}{7}$ km/h
 - 4. $93\frac{3}{7}$ km/h

Question ID : 26433076070

Status : Answered

Chosen Option : 2

Q.8 A एक घंटे में 11 बेंच की मरम्मत कर सकता है और B एक घंटे में 5 बेंच की मरम्मत कर सकता है। जब वे मिलकर एक साथ काम करते हैं तो निर्धारित करें कि 64 बेंचों की मरम्मत में उन्हें कितना समय लगेगा?

- Ans
- 1. 3 घंटा
 - 2. 5 घंटा
 - 3. 4 घंटा
 - 4. 6 घंटा

Question ID : 26433080140

Status : Answered

Chosen Option : 3

Q.9 आकाश एक कार्य को 21 दिनों में कर सकता है और दीया उसी कार्य को 63 दिनों में कर सकती है। समान कार्य को पूरा करने में लगने वाला समय ज्ञात करें यदि वे एकांतर दिनों में (बारी बारी से) कार्य करते हैं, और आकाश कार्य आरंभ करता है।

- Ans
- 1. 27 दिन
 - 2. 29 दिन
 - 3. 31 दिन
 - 4. 28 दिन

Question ID : 264330116894

Status : Answered

Chosen Option : 3

Q.10 एक यात्रा में किरण ने बाइक से 50 मील प्रति घंटे की चाल से 3 घंटे तक यात्रा की। इसके अलावा उसने कार से 65 मील प्रति घंटे की चाल से 2 घंटे तक यात्रा की। वह आराम करने के लिए 2 घंटे रुका। आराम के बाद उसने अपने गंतव्य तक पहुँचने के लिए बाइक से 80 मील प्रति घंटे की चाल से 4 घंटे तक यात्रा की। पूरी यात्रा में किरण की औसत चाल ज्ञात करें। (मील प्रति घंटे में) (दशमलव के दो स्थान तक पूर्णांकित)

- Ans
- 1. 65.68
 - 2. 50.44
 - 3. 54.54
 - 4. 60.06

Question ID : 26433079915

Status : Answered

Chosen Option : 2

Q.11 एक व्यापारी 18% और 20% की दो क्रमिक छूट देता है। यदि अंकित मूल्य ₹11,000 है, तो विक्रय मूल्य _____ है।

- Ans
- 1. ₹6,716
 - 2. ₹7,926
 - 3. ₹7,216
 - 4. ₹6,926

Question ID : 26433080110

Status : Answered

Chosen Option : 1

Q.12 कोई किराना व्यापारी 15% के लाभ पर चावल बेचता है और बाजार के वजन से 20% कम वजन को उपयोग में लाता है। उसके द्वारा अर्जित कुल लाभ _____ होगा।

- Ans
- 1. 45.37%
 - 2. 47.35%
 - 3. 53.74%
 - 4. 43.75%

Question ID : 26433073009

Status : Answered

Chosen Option : 4

Q.13 यदि 8 एवं 24 का तीसरा समानुपाती 'A' है और 4 एवं 16 का मध्यानुपाती 'B' है, तो $\frac{A}{B}$ का मान

_____ है।

- Ans
- 1. 10
 - 2. 8
 - 3. 9
 - 4. 12

Question ID : 26433082393

Status : Answered

Chosen Option : 3

Q.14 0.1 और 0.12 का तृतीयानुपाती ज्ञात करें।

- Ans
- 1. 0.122
 - 2. 0.144
 - 3. 0.24
 - 4. 0.124

Question ID : 26433081715

Status : Answered

Chosen Option : 2

Q.15 एक नदी 2 kmph की चाल से बह रही है। एक नाव कुल 10 घंटों में धारा की विपरीत दिशा में 40 km जाती है और B से A तक वापस भी आती है। शांत जल में नाव की चाल ज्ञात करें।

- Ans
- 1. 7.97 kmph
 - 2. 6.23 kmph
 - 3. 8.47 kmph
 - 4. 7.32 kmph

Question ID : 26433080242

Status : Not Answered

Chosen Option : --

Q.16

यदि $3\frac{1}{3} \div 6\frac{3}{7} \times 1\frac{1}{2} \times 3\frac{1}{7} = (p)^{1/2}$ है, तो 'p' का मान क्या है?

Ans

1. $\frac{484}{3}$

2. $\frac{484}{81}$

3. $\frac{22}{9}$

4. $\frac{22}{3}$

Question ID : 26433075135

Status : Not Answered

Chosen Option : --

Q.17 यदि ब्याज की दर पहले वर्ष के लिए 16% वार्षिक, दूसरे वर्ष के लिए 20% वार्षिक और तीसरे वर्ष के लिए 15% वार्षिक है, तो Rs.15,000 पर तीन वर्षों के लिए चक्रवृद्धि ब्याज ज्ञात कीजिए।

Ans 1. Rs.9,012

2. Rs.8,012

3. Rs.8,015

4. Rs.9,015

Question ID : 26433064988

Status : Not Answered

Chosen Option : --

Q.18 12 से विभाज्य 2 अंकीय सबसे बड़ी संख्या और 8 से विभाज्य 2 अंकीय सबसे छोटी संख्या का लघुत्तम समापवर्त्य ज्ञात करें।

Ans 1. 192

2. 48

3. 96

4. 384

Question ID : 264330116662

Status : Not Answered

Chosen Option : --

Q.19 एक दुकानदार दो तरह से अपने ग्राहक को धोखा देता है। वह शुद्ध शहद में 20% पानी मिला देता है और शहद की कीमत 15% बढ़ा देता है। वह 40 kg शुद्ध शहद के लिए Rs.30/ kg की दर से भुगतान करता है। वह इसे बेचकर कुल कितना लाभ कमाता है?

Ans 1. Rs.422

2. Rs.456

3. Rs.435

4. Rs.468

Question ID : 26433075848

Status : Not Answered

Chosen Option : --

Q.20 एक गाँव की वर्तमान जनसंख्या 50,000 है। शहरों की ओर पलायन के कारण जनसंख्या में प्रतिवर्ष 5% की दर से कमी आती है। 2 वर्ष के बाद गाँव की जनसंख्या ज्ञात कीजिए।

Ans 1. 45125

2. 48475

3. 41525

4. 44875

Question ID : 26433092027

Status : Not Answered

Chosen Option : --

Section : Part-D-English

Q.1 Select the most appropriate synonym for the given word.

False

Ans 1. Unfair

2. Untrue

3. Correct

4. Genuine

Question ID : 26433086372

Status : Not Answered

Chosen Option : --

Q.2 Select the most appropriate option that can substitute the underlined segment in the given sentence.

Everyone was shocked to see the old man upset and unkempt.

Ans 1. violent and rigorous

2. messy and untidy

3. up and doing

4. proud and useless

Question ID : 26433099873

Status : Not Answered

Chosen Option : --

Q.3 Select the most appropriate ANTONYM of the given word.

Steady

Ans 1. Voluntary

2. Wavering

3. Undeviating

4. Contrived

Question ID : 26433084687

Status : Not Answered

Chosen Option : --

Q.4 Select the word segment that substitutes (replaces) the bracketed word segment correctly and completes the sentence meaningfully.

After the teacher chose groups, John and Sara (was selected as partners for project), yet Sarah did most of the work.

- Ans
- 1. have selected as a partners for a project
 - 2. has selected as a partner for a project
 - 3. were selected as partners for a project
 - 4. had selected as partners for project

Question ID : 26433088963
Status : Not Answered
Chosen Option : --

Q.5 Select the most appropriate meaning of the given idiom.

In the fast lane

- Ans
- 1. In terrific speed
 - 2. In great excitement
 - 3. In perfect discipline
 - 4. In complete fear

Question ID : 26433073482
Status : Not Answered
Chosen Option : --

Q.6 Select the most appropriate ANTONYM of the given word.
Realm

- Ans
- 1. Domain
 - 2. Activity
 - 3. Kingdom
 - 4. Sky

Question ID : 26433084749
Status : Not Answered
Chosen Option : --

Q.7 Select the most appropriate option to fill in the blank.

The article _____ several experts on the subject.

- Ans
- 1. sits
 - 2. cites
 - 3. sites
 - 4. sights

Question ID : 26433060331
Status : Not Answered
Chosen Option : --

Q.8 Select the most appropriate option to fill in the blank.

Neha has _____ and won't come to work for a few days.

- Ans
- 1. floo
 - 2. flew
 - 3. flu
 - 4. flue

Question ID : 26433088940
Status : Not Answered
Chosen Option : --

Q.9 Parts of the given sentence have been given as options. One of them contains a spelling error. Select the option that rectifies the error.

According to a study by BBC across 66 different sports, five out of every six sports now give equal prize money to men and women at the world champonship level.

- Ans
- 1. championship
 - 2. akcross
 - 3. wumen
 - 4. diferent

Question ID : 26433072040
Status : Not Answered
Chosen Option : --

Q.10 Substitute the underline word with its appropriate synonym.

The crew of the ship was attacked.

- Ans
- 1. synced
 - 2. assaulted
 - 3. worshipped
 - 4. saved

Question ID : 26433073935
Status : Not Answered
Chosen Option : --

Q.11 Select the most appropriate meaning of the given idiom.

Penny wise and pound foolish

- Ans
- 1. Serious about wealth but never working hard
 - 2. Writing powerfully but speaking poorly
 - 3. Careful in trivial matters but wasteful in large
 - 4. Good at spending but bad at earning

Question ID : 26433073491
Status : Not Answered
Chosen Option : --

Q.12 Select the most appropriate option that can substitute the underlined segment in the given sentence.

During an office tour to Mumbai, I chanced to meet an old friend.

- Ans 1. ran into
 2. ran over
 3. ran about
 4. ran down

Question ID : 26433089092
Status : Not Answered
Chosen Option : --

Q.13 Select the INCORRECTLY spelt word.

- Ans 1. Coutious
 2. Intelligent
 3. Irrational
 4. Excessive

Question ID : 26433087934
Status : Not Answered
Chosen Option : --

Q.14 Select the most appropriate synonym of the given word.
Enmity

- Ans 1. Hostility
 2. Variability
 3. Pretext
 4. Probability

Question ID : 26433084666
Status : Not Answered
Chosen Option : --

Q.15 Parts of the following sentence have been given as options. One of them may contain an error. Select the part that contains the error from the given options. If you don't find any error, mark 'No error' as your answer.

The old man think his younger daughter was mocking him.

- Ans 1. The old man think
 2. was mocking him
 3. his younger daughter
 4. No error

Question ID : 26433090484
Status : Not Answered
Chosen Option : --

Comprehension:

In the following passage some words have been deleted. Fill in the blanks with the help of the alternatives given. Select the most appropriate option for each number.

Summer camp is a terrific idea used primarily by schools to (1)_____ pupils to acquire and master new skills. It is an (2)_____ outdoor activity. Many parents offer to enrol their kids in summer camps so they can participate in (3)_____ activities, discover their talents and passions, and broaden their horizons. Summer camps are (4)_____ for all children for ten to fifteen days by various schools or other organisations. These summer camps (5)_____ entertaining educational activities like fitness classes, hobby improvement classes, learning lectures, sports activities, musical performances, etc. The pupils' general development and growth are benefitted from these summer camps.

SubQuestion No : 16**Q.16 Select the most appropriate answer for blank 1.**

- Ans 1. accelerate
 2. assist
 3. hinder
 4. examine

Question ID : 26433089700

Status : Not Answered

Chosen Option : --

Comprehension:

In the following passage some words have been deleted. Fill in the blanks with the help of the alternatives given. Select the most appropriate option for each number.

Summer camp is a terrific idea used primarily by schools to (1)_____ pupils to acquire and master new skills. It is an (2)_____ outdoor activity. Many parents offer to enrol their kids in summer camps so they can participate in (3)_____ activities, discover their talents and passions, and broaden their horizons. Summer camps are (4)_____ for all children for ten to fifteen days by various schools or other organisations. These summer camps (5)_____ entertaining educational activities like fitness classes, hobby improvement classes, learning lectures, sports activities, musical performances, etc. The pupils' general development and growth are benefitted from these summer camps.

SubQuestion No : 17**Q.17 Select the most appropriate answer for blank 2.**

- Ans 1. assembled
 2. organised
 3. aggravated
 4. omitted

Question ID : 26433089701

Status : Not Answered

Chosen Option : --

Comprehension:

In the following passage some words have been deleted. Fill in the blanks with the help of the alternatives given. Select the most appropriate option for each number.

Summer camp is a terrific idea used primarily by schools to (1)_____ pupils to acquire and master new skills. It is an (2)_____ outdoor activity. Many parents offer to enrol their kids in summer camps so they can participate in (3)_____ activities, discover their talents and passions, and broaden their horizons. Summer camps are (4)_____ for all children for ten to fifteen days by various schools or other organisations. These summer camps (5)_____ entertaining educational activities like fitness classes, hobby improvement classes, learning lectures, sports activities, musical performances, etc. The pupils' general development and growth are benefitted from these summer camps.

SubQuestion No : 18

Q.18 Select the most appropriate answer for blank 3.

Ans 1. numerous

2. few

3. much

4. more

Question ID : 26433089702

Status : Not Answered

Chosen Option : --

Comprehension:

In the following passage some words have been deleted. Fill in the blanks with the help of the alternatives given. Select the most appropriate option for each number.

Summer camp is a terrific idea used primarily by schools to (1)_____ pupils to acquire and master new skills. It is an (2)_____ outdoor activity. Many parents offer to enrol their kids in summer camps so they can participate in (3)_____ activities, discover their talents and passions, and broaden their horizons. Summer camps are (4)_____ for all children for ten to fifteen days by various schools or other organisations. These summer camps (5)_____ entertaining educational activities like fitness classes, hobby improvement classes, learning lectures, sports activities, musical performances, etc. The pupils' general development and growth are benefitted from these summer camps.

SubQuestion No : 19

Q.19 Select the most appropriate answer for blank 4.

Ans 1. performed

2. held

3. executed

4. quoted

Question ID : 26433089703

Status : Not Answered

Chosen Option : --

Comprehension:

In the following passage some words have been deleted. Fill in the blanks with the help of the alternatives given. Select the most appropriate option for each number.

Summer camp is a terrific idea used primarily by schools to (1)_____ pupils to acquire and master new skills. It is an (2)_____ outdoor activity. Many parents offer to enrol their kids in summer camps so they can participate in (3)_____ activities, discover their talents and passions, and broaden their horizons. Summer camps are (4)_____ for all children for ten to fifteen days by various schools or other organisations. These summer camps (5)_____ entertaining educational activities like fitness classes, hobby improvement classes, learning lectures, sports activities, musical performances, etc. The pupils' general development and growth are benefitted from these summer camps.

SubQuestion No : 20

Q.20 Select the most appropriate answer for blank 5.

- Ans 1. align
 2. arrange
 3. adapt
 4. exhibit

Question ID : 26433089704

Status : Not Answered

Chosen Option : --

Section : Part-D-Hindi

Q.1 निम्न वाक्य में रेखांकित शब्द के विलोम से दिए गए वाक्य का रिक्त स्थान पूर्ण करें।
पुरानी इमारत में भयानक आग लगी है, बुझाने के लिए _____ की आवश्यकता है।

- Ans 1. रेत
 2. पानी
 3. वायु
 4. बारिश

Question ID : 26433085002

Status : Answered

Chosen Option : 2

Q.2 निम्नलिखित में से कौन सा संज्ञा से बना विशेषण नहीं है?

- Ans 1. श्रद्धालु
 2. स्वर्णिम
 3. अच्छाई
 4. सामाजिक

Question ID : 26433085053

Status : Not Answered

Chosen Option : --

Q.3 'द्विज' शब्द के लिए उपयुक्त वाक्य खंड चुनिए।

- Ans
- 1. बहुत बोलने वाला
 - 2. दो बार जन्म लेने वाला
 - 3. बहुत जानने वाला
 - 4. पहले जन्म लेने वाला

Question ID : 26433063056

Status : Answered

Chosen Option : 2

Q.4 वर्तनी की दृष्टि से अशुद्ध वाक्य का चयन कीजिए-

- Ans
- 1. यदि इसकी तलाशी लगे तो घड़ी मिल जाएगी।
 - 2. स्वस्थ रहने वाले लोगों को वैद्य के पास नहीं जाना पड़ता।
 - 3. वह इंकार कर देने का परिणाम जानता है।
 - 4. यौवन वह काल है जब चरित्र का निर्माण होता है।

Question ID : 26433062898

Status : Answered

Chosen Option : 4

Q.5 वह एक उत्तम व्यक्ति है।

उक्त वाक्य में रेखांकित पद 'उत्तम' का विलोम क्या है?

- Ans
- 1. स्वतंत्र
 - 2. शाश्वत
 - 3. कृतघ्न
 - 4. अधम

Question ID : 26433079185

Status : Answered

Chosen Option : 4

Q.6 'नाकों चने चबवाना' मुहावरे का सही अर्थ है -

- Ans
- 1. अपनी बातों से परेशान करना
 - 2. बहस करना
 - 3. बातूनी होना
 - 4. बहुत तंग करना

Question ID : 26433065930

Status : Answered

Chosen Option : 4

Q.7 विकल्पों में से 'शशि' के पर्यायवाची शब्द चयन कर दिए गए वाक्य में रिक्त स्थान की पूर्ति कीजिए।
पूर्णिमा की रात में _____ को देखकर हमें बड़ी खुशी हुई।

- Ans
- 1. कृष्णा
 - 2. पावक
 - 3. हिमांशु
 - 4. शतदल

Question ID : 26433063085

Status : Answered

Chosen Option : 3

Q.8 निम्न विकल्पों में से कौन सा शब्द दिए गए वाक्य में रेखांकित शब्द का पर्यायवाची नहीं है?
मेरे घर के सामने जो बाग है, वह फूलों और 'लता' से भरा है।

- Ans
- 1. वल्लरी
 - 2. वेल्लि
 - 3. बेल
 - 4. तरंग

Question ID : 26433085071

Status : Answered

Chosen Option : 4

Q.9 निम्नलिखित में से किस वाक्य में गुणवाचक विशेषण अशुद्ध है?

- Ans
- 1. तुम दोनों यहाँ कैसे आये!
 - 2. यह मेरा कुत्ता है।
 - 3. यह एक नया इमारत है।
 - 4. इस भवन में तीन द्वार हैं।

Question ID : 26433062995

Status : Answered

Chosen Option : 4

Q.10 'वह स्थान जहाँ से यमुना निकलती है' वाक्यांश के लिए उचित शब्द होगा?

- Ans
- 1. अस्ताचल
 - 2. यमुनोत्री
 - 3. गंगोत्री
 - 4. उदर्याचल

Question ID : 26433067067

Status : Answered

Chosen Option : 2

Q.11 निम्नलिखित वाक्य में रेखांकित खंड के स्थान पर प्रयुक्त होने वाले सबसे उपयुक्त विकल्प का चयन कीजिए-

सोहन क्योंकि मोहन जाते हैं।

- Ans
- 1. परंतु
 - 2. और
 - 3. साथ
 - 4. तथापि

Question ID : 26433079661
Status : Answered
Chosen Option : 2

Q.12 'आकाश पाताल एक करना' मुहावरे का सही अर्थ है -

- Ans
- 1. आकाश में उड़ना
 - 2. घमंड करना
 - 3. बहुत मेहनत करना
 - 4. किसी का नुकसान करना

Question ID : 26433065920
Status : Answered
Chosen Option : 3

Q.13 'जो मुकदमा दायर करता है' वाक्यांश के लिए इनमें से सही शब्द क्या है?

- Ans
- 1. मुकदमेबाज
 - 2. गवाह
 - 3. प्रतिवादी
 - 4. वादी

Question ID : 26433070150
Status : Answered
Chosen Option : 3

Q.14 हमारे देश से आयात - निर्यात काफी होती है।

इस वाक्य को शुद्ध करके लिखिए।

- Ans
- 1. हमारे देश में आयात - निर्यात काफी होता है।
 - 2. हमारा देश में आयात - निर्यात होता है।
 - 3. हमारा देश को आयात - निर्यात काफी होता है।
 - 4. हमारे देश में आयात - निर्यात पर्याप्त होती हैं।

Question ID : 26433063073
Status : Answered
Chosen Option : 1

Q.15 निम्नलिखित विकल्पों में से 'आशा से परे' वाक्यांश के लिए एक सार्थक शब्द क्या होगा ?

- Ans 1. आशातीत
 2. हताशा
 3. निराशा
 4. प्रत्याशा

Question ID : 26433062535

Status : Answered

Chosen Option : 1

Comprehension:

प्रश्न 1 से 5 तक के उत्तर निम्नांकित गद्यावतरण के आधार पर दीजिए।
किसी देश की संस्कृति को जानने के लिए वहाँ के (1) _____ का पूरा अध्ययन नितांत आवश्यक है।
साहित्य किसी देश तथा जाति के विकास का प्रतीक है। साहित्य से उस जाति के धार्मिक विचारों, सामाजिक
संगठन, ऐतिहासिक घटनाचक्र तथा राजनीतिक परिस्थितियों का प्रतिबिंब मिल जाता है। भारतीय संस्कृति के मूल
आधार हमारे साहित्य के (2) _____ ग्रंथ - रत्न हैं, जिनके विचारों से भारत की आंतरिक (3)
_____ का ज्ञान हो जाता है। हमारे देश की बाहरी विविधता भारतीय (4) _____ के रूप में
बहनेवाली विचार और संस्कृति की एकता को ढक लेती है। वांग्मय की (5) _____ एक है, पर वह
अनेक भाषाओं, रूपों तथा परिस्थितियों में हमारे सामने आती है।

SubQuestion No : 16

Q.16 निम्नलिखित विकल्पों में से सही शब्द चुनकर रिक्त स्थान (1) की पूर्ति कीजिए।

- Ans 1. साहित्य
 2. भूगोल
 3. राजनीति विज्ञान
 4. संस्कृत

Question ID : 26433069950

Status : Answered

Chosen Option : 1

Comprehension:

प्रश्न 1 से 5 तक के उत्तर निम्नांकित गद्यावतरण के आधार पर दीजिए।
किसी देश की संस्कृति को जानने के लिए वहाँ के (1) _____ का पूरा अध्ययन नितांत आवश्यक है।
साहित्य किसी देश तथा जाति के विकास का प्रतीक है। साहित्य से उस जाति के धार्मिक विचारों, सामाजिक
संगठन, ऐतिहासिक घटनाचक्र तथा राजनीतिक परिस्थितियों का प्रतिबिंब मिल जाता है। भारतीय संस्कृति के मूल
आधार हमारे साहित्य के (2) _____ ग्रंथ - रत्न हैं, जिनके विचारों से भारत की आंतरिक (3)
_____ का ज्ञान हो जाता है। हमारे देश की बाहरी विविधता भारतीय (4) _____ के रूप में
बहनेवाली विचार और संस्कृति की एकता को ढक लेती है। वांग्मय की (5) _____ एक है, पर वह
अनेक भाषाओं, रूपों तथा परिस्थितियों में हमारे सामने आती है।

SubQuestion No : 17

Q.17 रिक्त स्थान (2) की पूर्ति 'कीमती' के पर्यायवाची शब्द से कीजिए।

- Ans 1. दुर्मूल्य
 2. अतुल्य
 3. अमूल्य
 4. बाहुल्य

Question ID : 26433069951

Status : Answered

Chosen Option : 3

Comprehension:

प्रश्न 1 से 5 तक के उत्तर निम्नांकित गद्यावतरण के आधार पर दीजिए।

किसी देश की संस्कृति को जानने के लिए वहाँ के (1) _____ का पूरा अध्ययन नितांत आवश्यक है। साहित्य किसी देश तथा जाति के विकास का प्रतीक है। साहित्य से उस जाति के धार्मिक विचारों, सामाजिक संगठन, ऐतिहासिक घटनाचक्र तथा राजनीतिक परिस्थितियों का प्रतिबिंब मिल जाता है। भारतीय संस्कृति के मूल आधार हमारे साहित्य के (2) _____ ग्रंथ - रत्न हैं, जिनके विचारों से भारत की आंतरिक (3) _____ का ज्ञान हो जाता है। हमारे देश की बाहरी विविधता भारतीय (4) _____ के रूप में बहनेवाली विचार और संस्कृति की एकता को ढक लेती है। वांग्मय की (5) _____ एक है, पर वह अनेक भाषाओं, रूपों तथा परिस्थितियों में हमारे सामने आती है।

SubQuestion No : 18

Q.18 रिक्त स्थान (3) की पूर्ति 'अनेकता' के विलोम शब्द से कीजिए।

- Ans
- 1. एकाग्रता
 - 2. एकता
 - 3. समता
 - 4. ममता

Question ID : 26433069952

Status : Answered

Chosen Option : 2

Comprehension:

प्रश्न 1 से 5 तक के उत्तर निम्नांकित गद्यावतरण के आधार पर दीजिए।

किसी देश की संस्कृति को जानने के लिए वहाँ के (1) _____ का पूरा अध्ययन नितांत आवश्यक है। साहित्य किसी देश तथा जाति के विकास का प्रतीक है। साहित्य से उस जाति के धार्मिक विचारों, सामाजिक संगठन, ऐतिहासिक घटनाचक्र तथा राजनीतिक परिस्थितियों का प्रतिबिंब मिल जाता है। भारतीय संस्कृति के मूल आधार हमारे साहित्य के (2) _____ ग्रंथ - रत्न हैं, जिनके विचारों से भारत की आंतरिक (3) _____ का ज्ञान हो जाता है। हमारे देश की बाहरी विविधता भारतीय (4) _____ के रूप में बहनेवाली विचार और संस्कृति की एकता को ढक लेती है। वांग्मय की (5) _____ एक है, पर वह अनेक भाषाओं, रूपों तथा परिस्थितियों में हमारे सामने आती है।

SubQuestion No : 19

Q.19 रिक्त स्थान (4) की पूर्ति के लिए उपयुक्त शब्द का चयन विकल्पों में से कीजिए।

- Ans
- 1. वाहक
 - 2. वांगमुख
 - 3. वांग्मय
 - 4. वाग्वैभव

Question ID : 26433069953

Status : Answered

Chosen Option : 3

Comprehension:

प्रश्न 1 से 5 तक के उत्तर निम्नांकित गद्यावतरण के आधार पर दीजिए।

किसी देश की संस्कृति को जानने के लिए वहाँ के (1) _____ का पूरा अध्ययन नितांत आवश्यक है। साहित्य किसी देश तथा जाति के विकास का प्रतीक है। साहित्य से उस जाति के धार्मिक विचारों, सामाजिक संगठन, ऐतिहासिक घटनाचक्र तथा राजनीतिक परिस्थितियों का प्रतिबिंब मिल जाता है। भारतीय संस्कृति के मूल आधार हमारे साहित्य के (2) _____ ग्रंथ - रत्न हैं, जिनके विचारों से भारत की आंतरिक (3) _____ का ज्ञान हो जाता है। हमारे देश की बाहरी विविधता भारतीय (4) _____ के रूप में बहनेवाली विचार और संस्कृति की एकता को ढक लेती है। वांग्मय की (5) _____ एक है, पर वह अनेक भाषाओं, रूपों तथा परिस्थितियों में हमारे सामने आती है।

SubQuestion No : 20

Q.20 स्त्रीलिंग संज्ञा शब्द से रिक्त स्थान (5) की पूर्ति कीजिए।

- Ans 1. आत्मा
 2. प्राण
 3. जीवन
 4. भगवान

Question ID : 26433069954

Status : Not Answered

Chosen Option : --

KD Job Updates

Constable GD in CAPFs SSF Rifleman GD in Assam Rifles and Sepoy in NCB Examination 2022

Roll Number	KD Job Updates
Candidate Name	KD Job Updates
Venue Name	iON Digital Zone iDZ Naino Ka Bas
Exam Date	02/02/2023
Exam Time	11:45 AM - 12:45 PM
Subject	Constable GD Examination 2022

Section : Part-A-General Intelligence and Reasoning

Q.1 कौन-सा अक्षर-समूह दी गई श्रृंखला में प्रश्नचिह्न (?) के स्थान पर आकर श्रृंखला को पूर्ण करेगा?
JLNP, ? , LNPR, MOQS, NPRT

- Ans
- 1. KNOR
 - 2. KOMQ
 - 3. KLNP
 - 4. KMOQ

Question ID : 26433067716

Status : Answered

Chosen Option : 4

Q.2 नीचे तीन कथनों के बाद तीन निष्कर्ष I, II और III दिए गए हैं। दिए गए कथनों को सत्य मानते हुए भले ही वे सर्वज्ञात तथ्यों से भिन्न प्रतीत होते हों, निर्धारित कीजिए कि कौन-सा/से निष्कर्ष कथनों का तर्कसंगत रूप से अनुसरण करता/करते है/हैं।

कथन:

सभी सेब केले हैं।

सभी अंगूर केले हैं।

सभी केले आलूबुखारे हैं।

निष्कर्ष:

I. सभी सेब आलूबुखारे हैं।

II. सभी अंगूर आलूबुखारे हैं।

III. कुछ अंगूर केले हैं।

- Ans
- 1. केवल निष्कर्ष I और II अनुसरण करते हैं
 - 2. सभी निष्कर्ष अनुसरण करते हैं
 - 3. केवल निष्कर्ष I और III अनुसरण करते हैं
 - 4. केवल निष्कर्ष II और III अनुसरण करते हैं

Question ID : 26433090242

Status : Answered

Chosen Option : 2

Q.3 किस विकल्प में निम्नलिखित शब्दों का वह क्रम दिया गया है, जिस क्रम में वे अंग्रेजी शब्दकोश में आते हैं।

- 1 green
- 2 grate
- 3 greet
- 4 groom
- 5 great

- Ans
- 1. 2,4,1,3,5
 - 2. 2,1,3,5,4
 - 3. 2,5,1,3,4
 - 4. 2,3,1,5,4

Question ID : 26433069288

Status : Answered

Chosen Option : 3

Q.4 दिए गए समीकरण को संतुलित करने के लिए विकल्पों में दी गई किन दो संख्याओं(अंको को नहीं) को परस्पर बदलना होगा?

$$77 \div 7 - 2 \times 3 + 3 = 4$$

- Ans
- 1. 3 और 77
 - 2. 3 और 7
 - 3. 2 और 4
 - 4. 2 और 7

Question ID : 26433082478

Status : Answered

Chosen Option : 3

Q.5 कीर्ति, सुमन, शुभ, कनक, परी, चारु, श्लोक और शिवी एक वर्गाकार मेज के चारों ओर मेज के केंद्र की ओर मुख करके बैठे हैं। उनमें से कुछ कोनों पर बैठे हैं, जबकि कुछ भुजाओं के ठीक मध्य में बैठे हैं। कीर्ति, शुभ के बाईं ओर तीसरे स्थान पर बैठी है। कीर्ति किसी एक कोने पर बैठी है। कनक, परी के दाईं ओर दूसरे स्थान पर बैठी है। परी किसी भी कोने पर नहीं बैठी है। परी, कीर्ति के ठीक बगल में नहीं बैठी है। सुमन, चारु के ठीक बगल में बैठी है। सुमन किसी भी भुजा के ठीक मध्य में नहीं बैठी है। सुमन और श्लोक के बीच केवल तीन व्यक्ति बैठे हैं। शिवी के दाईं ओर दूसरे स्थान पर कौन बैठा/बैठी है?

- Ans
- 1. सुमन
 - 2. चारु
 - 3. श्लोक
 - 4. शुभ

Question ID : 26433082293

Status : Answered

Chosen Option : 3

Q.6 उस विकल्प का चयन करें जो तीसरे शब्द से उसी प्रकार संबंधित है जिस प्रकार दूसरा शब्द पहले शब्द से संबंधित है। (शब्दों को अर्थपूर्ण शब्दों के रूप में मानना है, और उन्हें शब्द में अक्षरों/व्यंजनों/स्वरों की संख्या के आधार पर एक-दूसरे से संबंधित नहीं करना है।)
रेलगाड़ी : पटरी :: कार : ?

- Ans
- 1. बस
 - 2. टायर
 - 3. सड़क
 - 4. पेट्रोल

Question ID : 26433082935

Status : Answered

Chosen Option : 3

Q.7 एक निश्चित कूट भाषा में, 'TEA' को '23' के रूप में लिखा जाता है और 'SKY' को '52' के रूप में लिखा जाता है। उसी भाषा में 'JAM' को कैसे लिखा जाएगा?

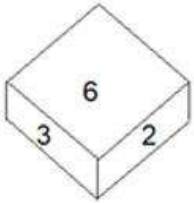
- Ans
- 1. 27
 - 2. 21
 - 3. 24
 - 4. 20

Question ID : 26433069641

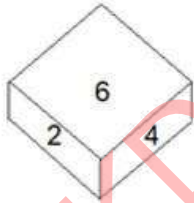
Status : Answered

Chosen Option : 2

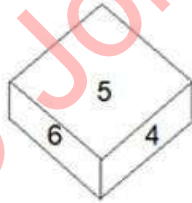
Q.8 एक ही पासे की तीन अलग-अलग स्थितियां दर्शाई गई हैं। '6' दर्शाने वाले फलक के विपरीत फलक पर संख्या ज्ञात करें।



आकृति 1



आकृति 2



आकृति 3

- Ans
- 1. 4
 - 2. 2
 - 3. 1
 - 4. 5

Question ID : 26433089452

Status : Answered

Chosen Option : 3

Q.9 यदि '+' का अर्थ है '-', '-' का अर्थ है 'x', 'x' का अर्थ है '÷' और '÷' का अर्थ है '+', तो निम्नलिखित में से कौन सा समीकरण सही होगा?

- Ans
- 1. $96 \div 3 + 56 \times 16 - 5 = 45$
 - 2. $20 + 44 \div 11 \times 3 - 9 = 30$
 - 3. $108 + 3 - 36 \times 6 \div 15 = 105$
 - 4. $15 - 6 \times 15 + 80 \div 2 = 25$

Question ID : 264330117551

Status : Not Answered

Chosen Option : --

Q.10 उस विकल्प का चयन कीजिए जो तीसरे शब्द से उसी प्रकार संबंधित है जिस प्रकार दूसरा शब्द पहले शब्द से संबंधित है। (शब्दों को अर्थपूर्ण शब्दों के रूप में मानना है और उन्हें शब्द में अक्षरों/व्यंजनों/स्वरों की संख्या के आधार पर एक-दूसरे से संबंधित नहीं करना है।)
मेंढक : टेडपोल :: कीट : ?

- Ans
- 1. पक्षी
 - 2. मच्छर
 - 3. लार्वा
 - 4. गाय

Question ID : 26433067374

Status : Answered

Chosen Option : 3

Q.11 एक निश्चित कूट भाषा में, 'SQUARE' को 'UQSER' के रूप में लिखा जाता है और 'CIRCLE' को 'RICELC' के रूप में लिखा जाता है, उसी भाषा में 'EQUATE' को कैसे लिखा जाएगा?

- Ans
- 1. UQEETE
 - 2. UQEETA
 - 3. AUQETA
 - 4. QQEETA

Question ID : 26433079391

Status : Answered

Chosen Option : 2

Q.12 उस विकल्प का चयन करें, जो पाँचवीं संख्या से उसी प्रकार संबंधित है, जिस प्रकार दूसरी संख्या, पहली संख्या से संबंधित है और चौथी संख्या, तीसरी संख्या से संबंधित है।
53 : 7 :: 77 : 10 :: 69 : ?

- Ans
- 1. 12
 - 2. 8
 - 3. 11
 - 4. 9

Question ID : 26433069421

Status : Answered

Chosen Option : 4

Q.13 L, M, N, O, P, Q, और R एक पंक्ति में पूर्व की ओर मुख करके बैठे हुए हैं। O, N के दाईं ओर ठीक बगल में बैठा है। Q पंक्ति के किसी एक सिरे पर बैठा है और P उसके दाईं ओर ठीक बगल में बैठा है। L, M और N के बीच में बैठा है। पंक्ति के दाएं सिरे पर कौन बैठा है?

Ans 1. M

2. R

3. Q

4. L

Question ID : 26433074625

Status : Answered

Chosen Option : 1

Q.14 निम्नलिखित में से कौन-सी संख्या दी गई श्रृंखला में प्रश्न चिह्न (?) के स्थान पर आएगी?
400, 410, 425, 450, 490, ?

Ans 1. 545

2. 540

3. 550

4. 555

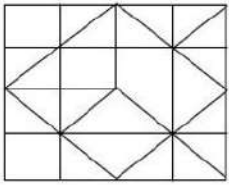
Question ID : 26433087033

Status : Answered

Chosen Option : 3

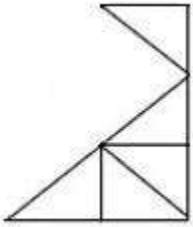
KD Job Updates

Q.15 उस विकल्प आकृति का चयन कीजिए, जो दी गई आकृति में अंतर्निहित है। (घूर्णन की अनुमति नहीं है।)

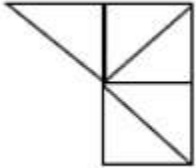


Ans

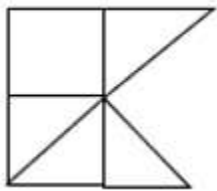
✓ 1.



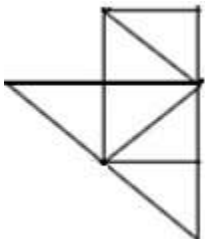
✗ 2.



✗ 3.



✗ 4.



Question ID : 26433081519

Status : Answered

Chosen Option : 4

Q.16 'P & Q' का अर्थ है 'P, Q की बहन है'
 'P % Q' का अर्थ है 'P, Q का भाई है'
 'P \$ Q' का अर्थ है 'P, Q की माता है'
 'P = Q' का अर्थ है 'P, Q का पिता है'
 A \$ B = C & D
 C, A से किस प्रकार संबंधित है?

- Ans
- ✗ 1. पुत्री
 - ✗ 2. बहन
 - ✗ 3. माता
 - ✓ 4. पोती

Question ID : 26433083115

Status : Answered

Chosen Option : 4

Q.17 यदि श्रृंखला जारी रखनी है तो कौन-सी आकृति प्रश्न चिह्न (?) के स्थान पर

आएगी?

A D	T S	S A	V T	
S R	D A	T D	A S	?
	T	R	V	D

Ans

✗ 1.

T S
V A
D

✓ 2.

T S
V A
M

✗ 3.

A V
S T
D

✗ 4.

A V
S T
M

KD Job Updates

Question ID : 26433076640

Status : Answered

Chosen Option : 4

Q.18 निम्न में से कौन सी संख्या दी गई श्रृंखला में प्रश्नचिह्न (?) के स्थान पर आएगी?
133, 156, ?, 202, 225, 248

Ans ✗ 1. 173

✗ 2. 166

✓ 3. 179

✗ 4. 186

Question ID : 26433076736

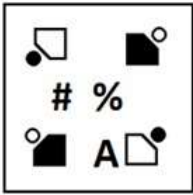
Status : Answered

Chosen Option : 3

Q.19 दर्पण को दाईं ओर रखे जाने पर, निम्नलिखित में से कौन-सी आकृति दी गई प्रश्न आकृति

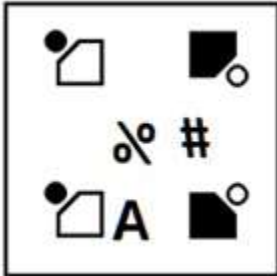
का सटीक दर्पण प्रतिबिम्ब होगी?

प्रश्न आकृति:

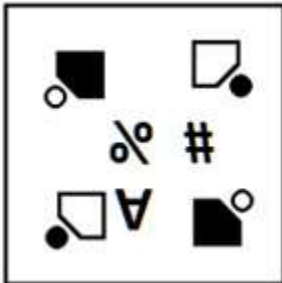


Ans


✗ 1.



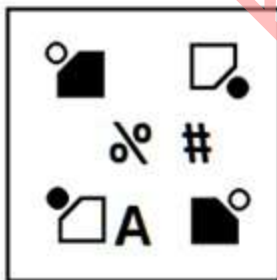
✗ 2.



✗ 3.



✓ 4.



Question ID : 26433087085

Status : Answered

Chosen Option : 4

Q.20 दिए गए विकल्पों में से उस अक्षर-समूह का चयन कीजिए जो निम्न श्रृंखला में प्रश्न-चिह्न (?) के स्थान पर आ सकता है।
RAP, TEV, VIB, XMH, ?

- Ans 1. ZQN
 2. YQN
 3. YQB
 4. ZQB

Question ID : 26433079032
Status : Answered
Chosen Option : 1

Section : Part-B-General Knowledge and General awareness

Q.1 प्लास्टर ऑफ पेरिस का रासायनिक नाम क्या है?

- Ans 1. कैल्शियम हाइपोक्लोराइड
 2. कैल्शियम कार्बोनेट
 3. कैल्शियम ऑक्साइड
 4. कैल्शियम सल्फेट हेमीहाइड्रेट

Question ID : 264330115154
Status : Answered
Chosen Option : 2

Q.2 राष्ट्रीय आय की गणना में _____ वर्ष (वर्षों) की समयावधि को ध्यान में रखा जाता है।

- Ans 1. दो
 2. एक
 3. पांच
 4. दस

Question ID : 264330115338
Status : Answered
Chosen Option : 3

Q.3 नवंबर 2022 तक की स्थिति के अनुसार, भव्य बिश्रोई, जो नवंबर 2022 में आदमपुर, हरियाणा से विधान सभा के सदस्य के रूप में चुने गए थे, _____ राजनीतिक दल से संबंधित हैं।

- Ans 1. भारतीय जनता पार्टी
 2. भारतीय राष्ट्रीय कांग्रेस
 3. भारतीय कम्युनिस्ट पार्टी
 4. राष्ट्रवादी कांग्रेस पार्टी

Question ID : 264330114919
Status : Answered
Chosen Option : 1

Q.4 ओलंपियन नीरज चोपड़ा ने 2020 ओलंपिक खेलों में _____ की दूरी तक भाला फेंककर स्वर्ण पदक हासिल किया।

- Ans
- 1. 88.01 m
 - 2. 89.58 m
 - 3. 87.58 m
 - 4. 87.85 m

Question ID : 26433092322

Status : Not Answered

Chosen Option : --

Q.5 जम्मू और कश्मीर पुनर्गठन (संशोधन) विधेयक, 2021 को _____ को राज्यसभा में पेश किया गया था।

- Ans
- 1. 4 फरवरी, 2021
 - 2. 4 जनवरी, 2021
 - 3. 4 अप्रैल, 2021
 - 4. 14 मार्च, 2021

Question ID : 264330116227

Status : Not Answered

Chosen Option : --

Q.6 जून 2022 में, केंद्रीय प्रत्यक्ष कर बोर्ड (CBDT) के नये अध्यक्ष के रूप में किसे नियुक्त किया गया?

- Ans
- 1. नितिन गुप्ता
 - 2. प्रमोद मोदी
 - 3. संगीता सिंह
 - 4. जगन्नाथ विद्याधर महापात्रा

Question ID : 264330115041

Status : Not Answered

Chosen Option : --

Q.7 निम्नलिखित में से किसे 2012 में केरल राज्य कथकली पुरस्कार से सम्मानित किया गया था?

- Ans
- 1. शोभना नारायण
 - 2. कलामंडलम वसु पिशारोडी
 - 3. कलामंडलम कल्याणिकुट्टी अम्मा
 - 4. अनुराधा पाण्डेय

Question ID : 264330115881

Status : Answered

Chosen Option : 3

Q.8 अशोक ने अपने शिलालेख में उल्लेख किया है कि उसने राजा बनने के _____ बाद कलिंग पर विजय प्राप्त की थी।

- Ans
- 1. सात वर्ष
 - 2. दस वर्ष
 - 3. नौ वर्ष
 - 4. आठ वर्ष

Question ID : 26433085215

Status : Answered

Chosen Option : 3

Q.9 निम्नलिखित में से कौन-सी, भारत की अंतिम पंचवर्षीय योजना थी?

- Ans
- 1. 12वीं
 - 2. 11वीं
 - 3. 13वीं
 - 4. 10वीं

Question ID : 26433092381

Status : Answered

Chosen Option : 3

Q.10 _____ एक ऐसी फसल है जिसका उपयोग भोजन और चारे दोनों के रूप में किया जाता है। यह एक खरीफ फसल है जिसे 21°C से 27°C के बीच तापमान की आवश्यकता होती है और पुरानी जलोढ़ मिट्टी में अच्छी तरह से बढ़ती है।

- Ans
- 1. चावल
 - 2. जूट
 - 3. मक्का
 - 4. गेहूं

Question ID : 26433054624

Status : Answered

Chosen Option : 1

Q.11 निम्नलिखित में से कौन सा वह पर्यावरणीय घटक नहीं है, जो वातावरण पोषकों के मुक्त होने की दर तय करते हैं?

- Ans
- 1. जनसंख्या
 - 2. मिट्टी
 - 3. ताप
 - 4. आर्द्रता

Question ID : 264330115257

Status : Answered

Chosen Option : 1

Q.12 2021 की नीति (NITI) आयोग की रिपोर्ट के अनुसार, ग्रामीण भारत की जनसंख्या का कितना प्रतिशत गरीबी रेखा से नीचे जीवन यापन कर रही है?

- Ans
- 1. 7.65%
 - 2. 32.75%
 - 3. 12.4%
 - 4. 23.4%

Question ID : 26433092886
Status : Answered
Chosen Option : 4

Q.13 1919 में, गांधीजी ने _____ के विरोध में सत्याग्रह का आह्वान किया था।

- Ans
- 1. भारतीय परिषद अधिनियम
 - 2. पिट्स इंडिया एक्ट
 - 3. रॉलेट एक्ट
 - 4. रेगुलेटिंग एक्ट

Question ID : 26433090589
Status : Answered
Chosen Option : 3

Q.14 नेताजी सुभाष राष्ट्रीय खेल संस्थान निम्नलिखित में से किस शहर में स्थित है?

- Ans
- 1. पुणे
 - 2. कोच्चि
 - 3. पटियाला
 - 4. जयपुर

Question ID : 264330116298
Status : Answered
Chosen Option : 3

Q.15 मूल अधिकारों की अवधारणा किस देश के संविधान से ली गई है?

- Ans
- 1. संयुक्त राज्य अमेरिका
 - 2. आयरलैंड
 - 3. यूनाइटेड किंगडम
 - 4. रूस

Question ID : 264330115639
Status : Not Answered
Chosen Option : --

Q.16 रक्षाबंधन, भाई और बहन के बीच रिश्ते की भावात्मकता को व्यक्त करने वाला त्यौहार है, 2022 में यह _____ के महीने में मनाया गया।

- Ans
- 1. जनवरी
 - 2. अगस्त
 - 3. मई
 - 4. जून

Question ID : 264330115095
Status : Answered
Chosen Option : 2

Q.17 _____, खुदरा विक्रेताओं के लिए गोदाम में स्टॉक रखते हैं ताकि खुदरा विक्रेताओं को जब भी उनकी आवश्यकता हो, उन्हें सामान उपलब्ध कराया जा सके।

- Ans
- 1. थोक विक्रेता
 - 2. खरीदार
 - 3. ग्राहक
 - 4. विक्रेता

Question ID : 264330115585
Status : Answered
Chosen Option : 1

Q.18 राज्य के महाधिवक्ता की नियुक्ति _____ द्वारा की जाती है।

- Ans
- 1. भारत के मुख्य न्यायाधीश
 - 2. राज्यपाल
 - 3. राज्य चुनाव आयुक्त
 - 4. मुख्यमंत्री

Question ID : 26433089184
Status : Answered
Chosen Option : 1

Q.19 गंगा नदी निम्नलिखित में से किस जल निकाय में जा मिलती है?

- Ans
- 1. प्रशांत महासागर
 - 2. अरब सागर
 - 3. दक्षिण चीन सागर
 - 4. बंगाल की खाड़ी

Question ID : 264330116009
Status : Answered
Chosen Option : 1

Q.20 निम्नलिखित में से कौन-सी लोक नृत्य शैली हरियाणा राज्य से संबंधित नहीं है?

- Ans 1. रउफ
 2. फाग
 3. गुग्गा
 4. खोरिया

Question ID : 26433086717

Status : Answered

Chosen Option : 1

Section : Part-C-Elementary Mathematics

Q.1 एक व्यक्ति ने 8 km की दूरी 4 km/h की चाल से, 12 km की दूरी 3 km/h की चाल से और 18 km की दूरी 2 km/h की चाल से तय की। कुल यात्रा में उसकी औसत चाल क्या है? (दशमलव के दो स्थानों तक लगभग)

- Ans 1. 2.53 km/h
 2. 3.53 km/h
 3. 2.83 km/h
 4. 2.03 km/h

Question ID : 26433090284

Status : Not Answered

Chosen Option : --

Q.2 एक कक्षा के सभी साठ छात्र गणित की परीक्षा में शामिल हुए। 25 छात्रों ने 96 औसत अंक प्राप्त किए। शेष छात्रों को 84 औसत अंक मिले। पूरी कक्षा के औसत अंक _____ है।

- Ans 1. 89
 2. 90
 3. 91
 4. 92

Question ID : 26433079909

Status : Answered

Chosen Option : 1

Q.3 124 m और 116 m लंबी दो ट्रेनें क्रमशः 28 km/h और 44 km/h की चाल से एक-दूसरे की ओर चल रही हैं। मिलने के बाद उन्हें एक-दूसरे को पार करने में कितना समय लगेगा?

- Ans 1. 16 सेकंड
 2. 12 सेकंड
 3. 10 सेकंड
 4. 14 सेकंड

Question ID : 26433075199

Status : Not Answered

Chosen Option : --

Q.4 रवि के पास एक केक है, जो 6 cm त्रिज्या के गोले के आकार का है। फिर उसने इसे चॉकलेट में डुबोकर फ्रीजर में रख दिया। कुछ समय बाद उसने देखा कि चॉकलेट ने केक के ऊपर 2 cm मोटी परत बनाई। केक को चॉकलेट में डुबाने के बाद उसके पृष्ठीय क्षेत्रफल में कितने प्रतिशत परिवर्तन होता है?

- Ans 1. 77.78%
 2. 64.23%
 3. 47.45%
 4. 34.89%

Question ID : 26433075328

Status : Answered

Chosen Option : 2

Q.5 लता ने Rs.2,160 में दो पंखे खरीदे। एक पंखे को 15% के लाभ पर और दूसरे को 9% की हानि पर बेचने पर, उसे पूरे लेन-देन में न तो लाभ होता है और न ही हानि। प्रत्येक पंखे का क्रय मूल्य ज्ञात करें।

- Ans 1. Rs.640, Rs.1,520
 2. Rs.1,000, Rs.1,160
 3. Rs.960, Rs.1,200
 4. Rs.810, Rs.1,350

Question ID : 26433073123

Status : Answered

Chosen Option : 4

Q.6 कुछ वस्तुएं Rs.4,500 में खरीदी जाती हैं। यदि एक तिहाई वस्तुएं 15% की हानि पर बेची गई हैं, तो शेष वस्तुओं को कितने प्रतिशत लाभ पर बेचा जाना चाहिए, ताकि पूरे लेनदेन पर 20% का लाभ प्राप्त हो?

- Ans 1. 35%
 2. 17.5%
 3. 37.5%
 4. 27.5%

Question ID : 26433074987

Status : Not Answered

Chosen Option : --

Q.7 एक व्यापारी किसी उत्पाद के अंकित मूल्य पर 20% छूट देता है। व्यापारी इस घटे मूल्य पर एक और 36.5% की छूट देता है। दोनों कटौतियाँ, एकल कटौती _____ के बराबर है।

- Ans 1. 49.2%
 2. 43.5%
 3. 53.4%
 4. 58.6%

Question ID : 26433066310

Status : Answered

Chosen Option : 1

Q.8 निम्नलिखित व्यंजक का मान ज्ञात करें।
 $95 - [144 \div 12 \text{ of } 12 - (-4) - \{3 - 17 - 10\}]$

- Ans
- 1. 78
 - 2. 48
 - 3. 66
 - 4. 92

Question ID : 26433076320
Status : Answered
Chosen Option : 3

Q.9 एक मोबाइल फोन Rs.15,500 में खरीदा गया था। इसके मूल्य में 20% प्रति वर्ष की दर से मूल्यहास होता है। दो वर्ष बाद इसका मूल्य ज्ञात कीजिए।

- Ans
- 1. Rs.9920
 - 2. Rs.6200
 - 3. Rs.10200
 - 4. Rs.12400

Question ID : 26433075736
Status : Answered
Chosen Option : 2

Q.10 10 प्रतिशत वार्षिक चक्रवृद्धि ब्याज दर से ₹1 लाख का मूलधन 3 वर्ष में बढ़कर कितना (₹ में) हो जाएगा? (ब्याज वार्षिक रूप से चक्रवृद्धि किया जाता है)

- Ans
- 1. ₹1,31,000
 - 2. ₹1,33,100
 - 3. ₹1,21,000
 - 4. ₹1,50,000

Question ID : 26433076012
Status : Answered
Chosen Option : 2

Q.11 एक 185 m लंबाई की और दूसरी 175 m लंबाई की, दो रेलगाड़ियाँ समानांतर पटरियों पर विपरीत दिशाओं में दौड़ रही हैं, पहली और दूसरी की चाल क्रमशः 80 km/h और 64 km/h हैं। एक-दूसरे को पार करने में वे कितना समय लेंगी?

- Ans
- 1. 7 सेकंड
 - 2. 9 सेकंड
 - 3. 9.5 सेकंड
 - 4. 8 सेकंड

Question ID : 26433075519
Status : Not Answered
Chosen Option : --

Q.12 A और B मिलकर कोई काम 24 दिन में कर सकते हैं। A, B से दोगुना कार्यकुशल है। B अकेले उस काम को कितने दिन में पूरा कर सकता है?

- Ans
- 1. 78
 - 2. 84
 - 3. 72
 - 4. 86

Question ID : 26433079893

Status : Answered

Chosen Option : 2

Q.13 M और N मिलकर एक कार्य को 18 दिनों में, N और P 26 दिनों में, और M और P 14 दिनों में पूरा कर सकते हैं। दिनों की अनुमानित संख्या ज्ञात करें, जहाँ सभी एक साथ काम करके कार्य को पूरा करते हैं।

- Ans
- 1. 12 दिन
 - 2. 13 दिन
 - 3. 11 दिन
 - 4. 15 दिन

Question ID : 264330116911

Status : Answered

Chosen Option : 2

Q.14 17 से विभाज्य 3 अंकीय सबसे छोटी संख्या और 34 से विभाज्य 2 अंकीय सबसे बड़ी संख्या का लघुत्तम समापवर्त्य ज्ञात करें।

- Ans
- 1. 102
 - 2. 204
 - 3. 408
 - 4. 816

Question ID : 264330116636

Status : Answered

Chosen Option : 3

Q.15 यदि H अपनी आय में से $\frac{1}{3}$ की बचत करता है और ₹15,600 प्रति माह खर्च करता है, तो उसकी प्रति माह बचत की गणना ₹ में करें।

- Ans
- 1. ₹7,800
 - 2. ₹10,400
 - 3. ₹11,700
 - 4. ₹5,200

Question ID : 26433081706

Status : Answered

Chosen Option : 2

Q.16 जय के पेटीएम वॉलेट में ₹500 हैं। उसने पहले अपने बैलेंस में 20% और फिर 25% की वृद्धि की। प्रारंभिक बैलेंस की तुलना में बैलेंस में प्रतिशत वृद्धि ज्ञात कीजिए।

- Ans
- 1. 52.5%
 - 2. 50%
 - 3. 55%
 - 4. 47.5%

Question ID : 26433076409
Status : Answered
Chosen Option : 2

Q.17 यदि पहली संख्या का 20% दूसरी संख्या के $\frac{1}{3}$ के बराबर है, तो दूसरी संख्या का पहली संख्या से अनुपात होगा:

- Ans
- 1. 5 : 3
 - 2. 2 : 3
 - 3. 3 : 2
 - 4. 3 : 5

Question ID : 26433082423
Status : Not Answered
Chosen Option : --

Q.18 एक शंकु की त्रिज्या और तिर्यक ऊंचाई का अनुपात क्रमशः 5 : 7 है। यदि इसका वक्र पृष्ठीय क्षेत्रफल 1,760 cm^2 है, तो इसकी त्रिज्या ज्ञात करें। $\pi = \frac{22}{7}$ लें

- Ans
- 1. 24 cm
 - 2. 20 cm
 - 3. 28 cm
 - 4. 21 cm

Question ID : 26433076254
Status : Not Answered
Chosen Option : --

Q.19 5, 10 और 17 का चतुर्थानुपाती क्या है?

- Ans
- 1. 51
 - 2. 15
 - 3. 34
 - 4. 43

Question ID : 26433080328
Status : Answered
Chosen Option : 3

Q.20 एकल छूट, जो 20%, 22% और 25% की तीन क्रमिक छूटों के बराबर है, _____ है।

Ans

1. $\frac{234}{5}\%$

2. $\frac{267}{5}\%$

3. $\frac{233}{5}\%$

4. $\frac{266}{5}\%$

Question ID : 26433090288

Status : Answered

Chosen Option : 1

Section : Part-D-English

Q.1 Select the most appropriate option to fill in the blank.
He decided not to go for the picnic as he was feeling a little_____.

Ans 1. as right as rain

2. under the weather

3. head in the clouds

4. calm before the storm

Question ID : 26433084652

Status : Not Answered

Chosen Option : --

Q.2 Select the most appropriate option that can substitute the underlined segment in the given sentence. If there is no need to substitute it, select 'No substitution'.

I am born in the United States, yet I consider myself Indian.

Ans 1. I was born in the United States,

2. No substitution

3. I was born at the United States,

4. I was born in United States,

Question ID : 264330101020

Status : Not Answered

Chosen Option : --

Q.3 Select the most appropriate ANTONYM of the given word.

Sluggish

- Ans
- 1. Flatter
 - 2. Humiliate
 - 3. Active
 - 4. Lethargic

Question ID : 26433090791
Status : Not Answered
Chosen Option : --

Q.4 Select the most appropriate option to fill in the blank.

He received a _____ during the ceremony.

- Ans
- 1. metal
 - 2. medal
 - 3. meddle
 - 4. mettle

Question ID : 26433084714
Status : Not Answered
Chosen Option : --

Q.5 Select the most appropriate antonym of the given word.

Betray

- Ans
- 1. Disloyal
 - 2. Sympathy
 - 3. Adverse
 - 4. Protect

Question ID : 26433072356
Status : Not Answered
Chosen Option : --

Q.6 Select the most appropriate meaning of the given idiom.
Spick and span

- Ans
- 1. To leave a place quickly
 - 2. To be in trouble
 - 3. To be neat and clean
 - 4. To be untidy

Question ID : 26433086378
Status : Not Answered
Chosen Option : --

Q.7 Select the most appropriate meaning of the given idiom.

Blaze the trail

- Ans
- 1. To be defeated
 - 2. To receive fame
 - 3. To cause a damage
 - 4. Be first to do something important

Question ID : 26433074058

Status : Not Answered

Chosen Option : --

Q.8 Select the most appropriate synonym of the capitalised word in the given sentence.

I had the PRIVILEGE of meeting the magistrate.

- Ans
- 1. Recommendation
 - 2. Guidance
 - 3. Honour
 - 4. Atrocity

Question ID : 26433088207

Status : Not Answered

Chosen Option : --

Q.9 Identify the correctly spelt sentence.

- Ans
- 1. Celastial objects are not visible to the naked eye.
 - 2. Kelestial objects are not visible to the naked eye.
 - 3. Celesteal objects are not visible to the naked eye.
 - 4. Celestial objects are not visible to the naked eye.

Question ID : 26433072839

Status : Not Answered

Chosen Option : --

Q.10 The following sentence has been split into four segments. Identify the segment that contains an error.

Nyra have/ been taking / dance classes / this year.

- Ans
- 1. dance classes
 - 2. been taking
 - 3. Nyra have
 - 4. this year

Question ID : 26433088297

Status : Not Answered

Chosen Option : --

Q.11 Select the most appropriate synonym of the given word.

Cherish

- Ans
- 1. Condemn
 - 2. Abandon
 - 3. Neglect
 - 4. Admire

Question ID : 26433073685
Status : Not Answered
Chosen Option : --

Q.12 Select the most appropriate synonym of the underlined word in the given sentence.

I was startled by his entry into the hall.

- Ans
- 1. glad
 - 2. cherished
 - 3. frightened
 - 4. miserable

Question ID : 26433092104
Status : Not Answered
Chosen Option : --

Q.13 Select the most appropriate option that can substitute the underlined segment in the given sentence.

The objective of Robotics are to interrogate smart machines that can help people in a variety of ways.

- Ans
- 1. is to develop
 - 2. is to bully
 - 3. are to facilitate
 - 4. are to levitate

Question ID : 26433089798
Status : Not Answered
Chosen Option : --

Q.14 The sentence given below has one misspelt word. Spot the INCORRECTLY spelt word and select its correct spelling.

A trimphant smile appeared on his face.

- Ans
- 1. Trimpant
 - 2. Triumphant
 - 3. Triumpant
 - 4. Tremphant

Question ID : 26433073560
Status : Not Answered
Chosen Option : --

Q.15 Select the correct word for the blanks in the given sentence.

He _____ to success after winning a lottery and _____ is everyone's favourite flower.

- Ans
- 1. got
 - 2. rise
 - 3. zenith
 - 4. rose

Question ID : 26433060541

Status : Not Answered

Chosen Option : --

Comprehension:

In the following passage, some words have been deleted. Read the passage carefully and select the most appropriate option to fill in each blank.

It is often said that (1) _____ you want a pet to look up to you, get a dog. If you want a pet that looks straight (2) _____ you, get a horse. For an animal that looks down (3) _____ you, the cat must surely (4) _____ this description.

Cats are their own bosses. They have little or no regard for anyone or anything. If you have (5) _____ looked closely at the cat, you will observe that it looks at you from the corner of its eyes, almost condescendingly.

SubQuestion No : 16

Q.16 Select the most appropriate option to fill in blank number 1.

- Ans
- 1. whenever
 - 2. whether
 - 3. ever
 - 4. if

Question ID : 26433072453

Status : Not Answered

Chosen Option : --

Comprehension:

In the following passage, some words have been deleted. Read the passage carefully and select the most appropriate option to fill in each blank.

It is often said that (1) _____ you want a pet to look up to you, get a dog. If you want a pet that looks straight (2) _____ you, get a horse. For an animal that looks down (3) _____ you, the cat must surely (4) _____ this description.

Cats are their own bosses. They have little or no regard for anyone or anything. If you have (5) _____ looked closely at the cat, you will observe that it looks at you from the corner of its eyes, almost condescendingly.

SubQuestion No : 17

Q.17 Select the most appropriate option to fill in blank number 2.

- Ans
- 1. by
 - 2. to
 - 3. at
 - 4. over

Question ID : 26433072454

Status : Not Answered

Chosen Option : --

Comprehension:

In the following passage, some words have been deleted. Read the passage carefully and select the most appropriate option to fill in each blank.

It is often said that (1) _____ you want a pet to look up to you, get a dog. If you want a pet that looks straight (2) _____ you, get a horse. For an animal that looks down (3) _____ you, the cat must surely (4) _____ this description.

Cats are their own bosses. They have little or no regard for anyone or anything. If you have (5) _____ looked closely at the cat, you will observe that it looks at you from the corner of its eyes, almost condescendingly.

SubQuestion No : 18**Q.18 Select the most appropriate option to fill in blank number 3.****Ans** ✓ 1. on

✗ 2. with

✗ 3. at

✗ 4. in

Question ID : 26433072455

Status : Not Answered

Chosen Option : --

Comprehension:

In the following passage, some words have been deleted. Read the passage carefully and select the most appropriate option to fill in each blank.

It is often said that (1) _____ you want a pet to look up to you, get a dog. If you want a pet that looks straight (2) _____ you, get a horse. For an animal that looks down (3) _____ you, the cat must surely (4) _____ this description.

Cats are their own bosses. They have little or no regard for anyone or anything. If you have (5) _____ looked closely at the cat, you will observe that it looks at you from the corner of its eyes, almost condescendingly.

SubQuestion No : 19**Q.19 Select the most appropriate option to fill in blank number 4.****Ans** ✓ 1. fit

✗ 2. find

✗ 3. mist

✗ 4. feat

Question ID : 26433072456

Status : Not Answered

Chosen Option : --

Comprehension:

In the following passage, some words have been deleted. Read the passage carefully and select the most appropriate option to fill in each blank.

It is often said that (1) _____ you want a pet to look up to you, get a dog. If you want a pet that looks straight (2) _____ you, get a horse. For an animal that looks down (3) _____ you, the cat must surely (4) _____ this description.

Cats are their own bosses. They have little or no regard for anyone or anything. If you have (5) _____ looked closely at the cat, you will observe that it looks at you from the corner of its eyes, almost condescendingly.

SubQuestion No : 20

Q.20 Select the most appropriate option to fill in blank number 5.

- Ans 1. ever
 2. never
 3. sometime
 4. whenever

Question ID : 26433072457

Status : Not Answered

Chosen Option : --

Section : Part-D-Hindi

Q.1 'वायु' के एकार्थी शब्द से निम्न वाक्य की पूर्ति कीजिए।
सारे विशाल पेड़ _____ से गिर पड़े।

- Ans 1. प्रभंजन
 2. धूप
 3. भूकंप
 4. वर्षा

Question ID : 26433063081

Status : Answered

Chosen Option : 1

Q.2 'जिसे पान करने से अमर हो जाए'
ऊपर दिए गए वाक्यांश के लिए एक शब्द क्या होगा?

- Ans 1. अमृत
 2. अनिल
 3. सलिल
 4. अखाद्य

Question ID : 26433070054

Status : Answered

Chosen Option : 1

Q.3 निम्नलिखित में से शुद्ध वाक्य है-

- Ans
- 1. अब तुम मैं को बेवकूफ नहीं बना सकते।
 - 2. अब तुम मुझे बेवकूफ नहीं बना सकते।
 - 3. अब तुम मुझे बेवकूफ नहीं बना सकते।
 - 4. अब तुम मुझको बेवकूफ ना बना सकते।

Question ID : 26433066845

Status : Answered

Chosen Option : 2

Q.4 झूठ बोलना पाप है।

उपरोक्त वाक्य में रेखांकित पद बदलकर लिखिए।

- Ans
- 1. दूसरों को हानि पहुँचाना
 - 2. मनुष्य को न मारना
 - 3. सच बोलना
 - 4. फूल बिछाना

Question ID : 26433062694

Status : Answered

Chosen Option : 1

Q.5 निम्न वाक्य में रेखांकित अंश के स्थान पर सबसे उपयुक्त विकल्प कौन-सा होगा?

बात-बात में इस तरह झगड़ना-लड़ना ठीक नहीं है।

- Ans
- 1. लड़ना-मरना
 - 2. मरना-लड़ना
 - 3. झगड़ना-मारना
 - 4. लड़ना-झगड़ना

Question ID : 26433066873

Status : Answered

Chosen Option : 4

Q.6 नीचे दिए गये वाक्यांश के लिए सार्थक शब्द बताइए-

‘रात और संध्या के बीच का समय’

- Ans
- 1. बेला
 - 2. अस्ताचल
 - 3. गोधूलि
 - 4. सायंकाल

Question ID : 26433062594

Status : Answered

Chosen Option : 2

Q.7 निम्नलिखित विकल्पों में से 'उल्लू सीधा करना' मुहावरे का अर्थ क्या है?

- Ans
- 1. स्वार्थ सिद्ध करना
 - 2. सबकी मदद करना
 - 3. सबको साथ लेकर चलना
 - 4. निरर्थक साबित होना

Question ID : 26433062549

Status : Answered

Chosen Option : 1

Q.8 निम्न मुहावरे को पूर्ण कीजिए।
हाथ की _____ बनना

- Ans
- 1. कठ-जामुन
 - 2. कठ-मांडू
 - 3. कठ-पुतली
 - 4. कठ-गुलाब

Question ID : 26433062817

Status : Answered

Chosen Option : 3

Q.9 निम्नलिखित में से शुद्ध वाक्य कौन-सा है?

- Ans
- 1. भगत सिंह का राष्ट्र आभारी है।
 - 2. आकाश जानता है कि शायद उसका मित्र सो रहा है।
 - 3. उसका सौन्दर्य कभी कम न होगा।
 - 4. गाय का ताकतवर दूध होता है।

Question ID : 26433066992

Status : Answered

Chosen Option : 1

Q.10 निम्न में से किस वाक्य में 'खल' के सही पर्यायवाची शब्द का प्रयोग हुआ है?

- Ans
- 1. नयन अत्यंत दुष्ट है।
 - 2. किसान बहुत परिश्रम करते हैं।
 - 3. समुद्र का तट अत्यंत विस्तृत है।
 - 4. उस पर खूनी हमला हुआ।

Question ID : 26433067018

Status : Answered

Chosen Option : 3

Q.11 ' _____ उत्पादक और उपभोक्ता को सम्पर्क में लाता है।' उपरोक्त वाक्य में रिक्त स्थान की पूर्ति निम्न में से उपयुक्त शब्द द्वारा कीजिए।

- Ans
- 1. निर्देशक
 - 2. डाकिया
 - 3. मुखिया
 - 4. विज्ञापन

Question ID : 26433080899

Status : Answered

Chosen Option : 4

Q.12 विकल्पों में दिए गए समानार्थी शब्दों में से निम्न वाक्य के लिए सर्वोचित शब्द का प्रयोग करके रिक्त स्थान की पूर्ति कीजिए।
पांडु पुत्र अर्जुन _____ निशानेबाज़ वीर था।

- Ans
- 1. अनुपम
 - 2. अद्वितीय
 - 3. अनोखा
 - 4. अनूठा

Question ID : 26433062932

Status : Answered

Chosen Option : 2

Q.13 दिए गए विकल्पों में से कौन सा शब्द, निम्नलिखित वाक्य में रेखांकित शब्द का पर्यायवाची नहीं है।
मदमस्त हाथी अपनी ही धुन में चलते हैं।

- Ans
- 1. कुंजर
 - 2. हाथ
 - 3. गज
 - 4. हस्ति

Question ID : 26433091336

Status : Answered

Chosen Option : 2

Q.14 कर्म के आधार पर क्रिया के दो भेद हैं-

- Ans
- 1. अकर्मक, सकर्मक
 - 2. सजातीय, विजातीय
 - 3. एककर्मक, द्विकर्मक
 - 4. गुणवाचक, सर्वनामिक

Question ID : 26433085041

Status : Answered

Chosen Option : 1

Q.15 निम्नलिखित में से कौन-सा वाक्य संज्ञा के प्रयोग की दृष्टि से शुद्ध है?

- Ans
- 1. वृद्धता मानव जीवन के विकास का अंतिम चरण है।
 - 2. वार्धक्य मानव जीवन के विकास का अंतिम चरण है।
 - 3. वृद्धमान मानव जीवन के विकास का अंतिम चरण है।
 - 4. वृद्ध मानव जीवन के विकास का अंतिम चरण है।

Question ID : 26433066956

Status : Answered

Chosen Option : 1

Comprehension:

निम्नलिखित गद्यांश में कुछ शब्दों को हटा दिया गया है। दिए गए विकल्पों की सहायता से रिक्त स्थानों की पूर्ति कीजिए। प्रत्येक संख्या के लिए सबसे उपयुक्त विकल्प का चयन कीजिए।

मानव जीवन सुख और दुःख का मिला-जुला 1. _____ होता है। मनुष्य जीवन भर संघर्ष करता है। बचपन से लेकर वृद्धावस्था तक यदि वह 2. _____ रहेगा तो उसका जीवन नीरस हो जाएगा। जीवन को सरस बनाने के लिए 3. _____ के विभिन्न साधनों की आवश्यकता होती है। वैसे भी मनोरंजन मनुष्य की 4. _____ प्रवृत्ति है। सच पूछा जाए तो मनोरंजन के बिना जीवन 5. _____ है।

SubQuestion No : 16

Q.16 रिक्त स्थान 1 की पूर्ति के लिए सबसे उपयुक्त विकल्प का चयन कीजिए।

- Ans
- 1. स्थान
 - 2. रूप
 - 3. कार्य
 - 4. साधन

Question ID : 264330111011

Status : Answered

Chosen Option : 2

Comprehension:

निम्नलिखित गद्यांश में कुछ शब्दों को हटा दिया गया है। दिए गए विकल्पों की सहायता से रिक्त स्थानों की पूर्ति कीजिए। प्रत्येक संख्या के लिए सबसे उपयुक्त विकल्प का चयन कीजिए।

मानव जीवन सुख और दुःख का मिला-जुला 1. _____ होता है। मनुष्य जीवन भर संघर्ष करता है। बचपन से लेकर वृद्धावस्था तक यदि वह 2. _____ रहेगा तो उसका जीवन नीरस हो जाएगा। जीवन को सरस बनाने के लिए 3. _____ के विभिन्न साधनों की आवश्यकता होती है। वैसे भी मनोरंजन मनुष्य की 4. _____ प्रवृत्ति है। सच पूछा जाए तो मनोरंजन के बिना जीवन 5. _____ है।

SubQuestion No : 17

Q.17 रिक्त स्थान 2 की पूर्ति के लिए सबसे उपयुक्त विकल्प का चयन कीजिए।

- Ans
- 1. संघर्षशील
 - 2. प्रचलित
 - 3. प्रभावित
 - 4. मिलनसार

Question ID : 264330111012

Status : Answered

Chosen Option : 1

Comprehension:

निम्नलिखित गद्यांश में कुछ शब्दों को हटा दिया गया है। दिए गए विकल्पों की सहायता से रिक्त स्थानों की पूर्ति कीजिए। प्रत्येक संख्या के लिए सबसे उपयुक्त विकल्प का चयन कीजिए।
मानव जीवन सुख और दुःख का मिला-जुला 1. _____ होता है। मनुष्य जीवन भर संघर्ष करता है। बचपन से लेकर वृद्धावस्था तक यदि वह 2. _____ रहेगा तो उसका जीवन नीरस हो जाएगा। जीवन को सरस बनाने के लिए 3. _____ के विभिन्न साधनों की आवश्यकता होती है। वैसे भी मनोरंजन मनुष्य की 4. _____ प्रवृत्ति है। सच पूछा जाए तो मनोरंजन के बिना जीवन 5. _____ है।

SubQuestion No : 18

Q.18 रिक्त स्थान 3 की पूर्ति के लिए सबसे उपयुक्त विकल्प का चयन कीजिए।

- Ans
- 1. परिवार
 - 2. मनोरंजन
 - 3. कार्य
 - 4. आकर्षण

Question ID : 264330111013

Status : Answered

Chosen Option : 2

Comprehension:

निम्नलिखित गद्यांश में कुछ शब्दों को हटा दिया गया है। दिए गए विकल्पों की सहायता से रिक्त स्थानों की पूर्ति कीजिए। प्रत्येक संख्या के लिए सबसे उपयुक्त विकल्प का चयन कीजिए।
मानव जीवन सुख और दुःख का मिला-जुला 1. _____ होता है। मनुष्य जीवन भर संघर्ष करता है। बचपन से लेकर वृद्धावस्था तक यदि वह 2. _____ रहेगा तो उसका जीवन नीरस हो जाएगा। जीवन को सरस बनाने के लिए 3. _____ के विभिन्न साधनों की आवश्यकता होती है। वैसे भी मनोरंजन मनुष्य की 4. _____ प्रवृत्ति है। सच पूछा जाए तो मनोरंजन के बिना जीवन 5. _____ है।

SubQuestion No : 19

Q.19 रिक्त स्थान 4 की पूर्ति के लिए सबसे उपयुक्त विकल्प का चयन कीजिए।

- Ans
- 1. बड़ी
 - 2. स्वाभाविक
 - 3. मध्यम
 - 4. अप्रत्यक्ष

Question ID : 264330111014

Status : Answered

Chosen Option : 2

Comprehension:

निम्नलिखित गद्यांश में कुछ शब्दों को हटा दिया गया है। दिए गए विकल्पों की सहायता से रिक्त स्थानों की पूर्ति कीजिए। प्रत्येक संख्या के लिए सबसे उपयुक्त विकल्प का चयन कीजिए।
मानव जीवन सुख और दुःख का मिला-जुला 1. _____ होता है। मनुष्य जीवन भर संघर्ष करता है। बचपन से लेकर वृद्धावस्था तक यदि वह 2. _____ रहेगा तो उसका जीवन नीरस हो जाएगा। जीवन को सरस बनाने के लिए 3. _____ के विभिन्न साधनों की आवश्यकता होती है। वैसे भी मनोरंजन मनुष्य की 4. _____ प्रवृत्ति है। सच पूछा जाए तो मनोरंजन के बिना जीवन 5. _____ है।

SubQuestion No : 20

Q.20 रिक्त स्थान 5 की पूर्ति के लिए सबसे उपयुक्त विकल्प का चयन कीजिए।

- Ans
- 1. वर्चस्व
 - 2. पूरा
 - 3. उचित
 - 4. अधूरा

Question ID : 264330111015

Status : Answered

Chosen Option : 4

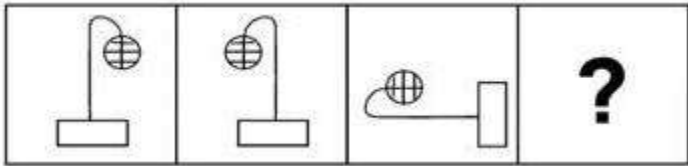
KD Job Updates

Constable GD in CAPFs SSF Rifleman GD in Assam Rifles and Sepoy in NCB Examination 2022

Roll Number	KD Job Updates
Candidate Name	KD Job Updates
Venue Name	iON Digital Zone iDZ 1 Sector 62
Exam Date	02/02/2023
Exam Time	2:30 PM - 3:30 PM
Subject	Constable GD Examination 2022

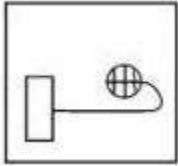
Section : Part-A-General Intelligence and Reasoning

Q.1 वह विकल्प ज्ञात कीजिए जो तीसरी आकृति से उसी प्रकार संबंधित है जैसे दूसरी आकृति पहली आकृति से संबंधित है।
(पहला आकृति सबसे बाईं ओर की आकृति है।)

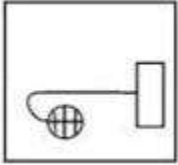


Ans

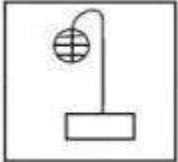
✓ 1.



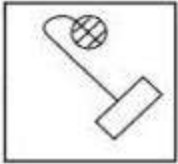
✗ 2.



✗ 3.



✗ 4.



Question ID : 26433078860

Status : Answered

Chosen Option : 2

Q.2 उस विकल्प का चयन करें, जो पाँचवीं संख्या से उसी प्रकार संबंधित है, जिस प्रकार दूसरी संख्या, पहली संख्या से संबंधित है और चौथी संख्या, तीसरी संख्या से संबंधित है।
31 : 14 :: 23 : 10 :: 39 : ?

- Ans
- 1. 20
 - 2. 19
 - 3. 18
 - 4. 22

Question ID : 26433069428
Status : Answered
Chosen Option : 3

Q.3 छः विद्यार्थी एक वृत्ताकार मेज के परितः मेज के केंद्र की ओर मुख करके बैठे हैं। केन, जो के दाईं ओर ठीक बगल में बैठा है। जो, बेन के बाईं ओर तीसरे स्थान पर बैठा है। कैट, बेन के दाईं ओर ठीक बगल में बैठी है। जेन, बेन और केन के ठीक बगल में बैठा है। इनमें से कौन, केन और मेल के ठीक बगल में बैठा/बैठी है?

- Ans
- 1. बेन
 - 2. जो
 - 3. कैट
 - 4. जेन

Question ID : 26433081770
Status : Answered
Chosen Option : 2

Q.4 निम्न में से कौन सी संख्या दी गई श्रृंखला में प्रश्नचिह्न (?) के स्थान पर आएगी?
89, 214, ?, 773, 1285, 2014

- Ans
- 1. 342
 - 2. 430
 - 3. 422
 - 4. 446

Question ID : 26433076743
Status : Answered
Chosen Option : 2

Q.5 सात व्यक्ति I, J, K, L, M, N और O एक सीधी पंक्ति में उत्तर की ओर मुख करके बैठे हैं। M के बाईं ओर केवल पांच व्यक्ति बैठे हैं। J, O के बाईं ओर तीसरे स्थान पर बैठा है। O, M के ठीक बगल में नहीं बैठा है। K, N के दाईं ओर ठीक बगल में बैठा है। I, J के दाईं ओर चौथे स्थान पर बैठा है। पंक्ति के दाएं सिरे पर कौन बैठा है?

- Ans
- 1. K
 - 2. L
 - 3. I
 - 4. O

Question ID : 26433076526
Status : Answered
Chosen Option : 2

Q.6 A @ B का अर्थ है 'A, B का पति है'।
A & B का अर्थ है 'A, B की पुत्री है'।
A # B का अर्थ है 'A, B का पिता है'।
A % B का अर्थ है 'A, B का सहोदर है'।
यदि H @ K % M # P & S है, तो S, K से किस प्रकार संबंधित है?

- Ans
- 1. बहन
 - 2. भाई
 - 3. पिता
 - 4. भाभी

Question ID : 26433069620

Status : Answered

Chosen Option : 4

KD Job Updates

Q.7 दर्पण को दाईं ओर रखे जाने पर, निम्नलिखित में से कौन-सी आकृति दी गई प्रश्न आकृति

का सटीक दर्पण प्रतिबिम्ब होगी?

प्रश्न आकृति:

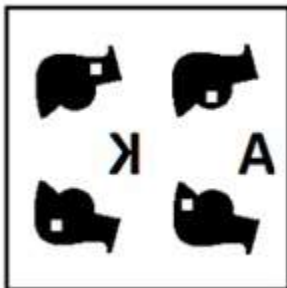


Ans

✓ 1.



✗ 2.



✗ 3.



✗ 4.



Question ID : 26433087090

Status : Answered

Chosen Option : 1

Q.8 Select the option that is related to the third word in the same way as the second word is related to the first word. (The words must be considered as meaningful English words and must not be related to each other based on the number of letters/number of consonants/vowels in the word.)

Doctor : Hospital :: Engineer : ?

- Ans
- 1. Construct
 - 2. School
 - 3. Court
 - 4. Site

Question ID : 26433067855

Status : Marked For Review

Chosen Option : 4

Q.9 उस विकल्प का चयन कीजिए जो तीसरे शब्द से उसी प्रकार संबंधित है, जिस प्रकार दूसरा शब्द पहले शब्द से संबंधित है। (शब्दों को अर्थपूर्ण शब्दों के रूप में माना जाना चाहिए और शब्द में अक्षरों/व्यंजनों/स्वरों की संख्या के आधार पर एक दूसरे से संबंधित नहीं किया जाना चाहिए)
सिंह : गुफा :: राजा : _____

- Ans
- 1. खरगोश
 - 2. महल
 - 3. नौकर
 - 4. जाला

Question ID : 26433078831

Status : Answered

Chosen Option : 2

Q.10 किस विकल्प में निम्नलिखित शब्दों का वह क्रम दिया गया है, जिस क्रम में वे अंग्रेजी शब्दकोश में आते हैं।

1. micro
2. minute
3. miles
4. mimic
5. miniature

- Ans
- 1. 1,3,4,5,2
 - 2. 1,4,5,3,2
 - 3. 1,4,3,5,2
 - 4. 1,5,2,4,3

Question ID : 26433069293

Status : Answered

Chosen Option : 1

Q.11 निम्नलिखित में से कौन-सी संख्या दी गई श्रृंखला में प्रश्न-चिह्न (?) के स्थान पर पर आएगी?
11, 35, 69, 209, 417, ?

Ans 1. 1253

2. 1152

3. 1125

4. 1521

Question ID : 26433069118

Status : Answered

Chosen Option : 1

Q.12 एक निश्चित कूट भाषा में, 'BREAD' को 'BED19' के रूप में लिखा जाता है, 'IRONY' को 'IOY32' के रूप में लिखा जाता है, उसी भाषा में 'SHARP' को कैसे लिखा जाएगा?

Ans 1. SAP62

2. SAP26

3. 26SAP

4. SHA26

Question ID : 26433069647

Status : Answered

Chosen Option : 2

Q.13 नीचे दिए गए समीकरण को गणितीय रूप से सही बनाने के लिए किन दो चिन्हों को परस्पर बदलना चाहिए?

$$60 \div 3 \times 20 - 15 + 12 = 6$$

Ans 1. ÷ और -

2. ÷ और ×

3. × और -

4. - और +

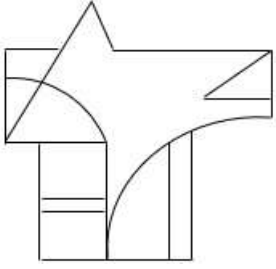
Question ID : 264330117511

Status : Answered

Chosen Option : 2

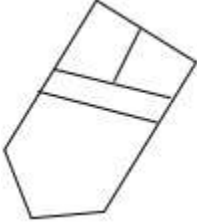
Q.14 वह विकल्प चित्र चुनिए, जो प्रस्तुत चित्र में अंतर्निहित है। (घुमाना अनुमन्य नहीं

है)

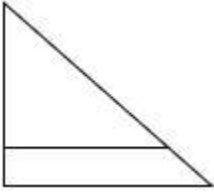


Ans

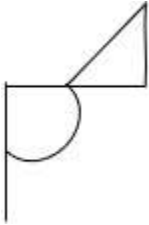
✗ 1.



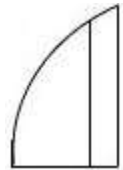
✗ 2.



✗ 3.



✓ 4.



KD Job Updates

Question ID : 26433069355

Status : Answered

Chosen Option : 4

Q.15 दिए गए विकल्पों में से उस अक्षर-समूह का चयन कीजिए जो निम्न श्रृंखला में प्रश्न-चिह्न (?) के स्थान पर आ सकता है।

RXUT, VVYX, ZTCB, ?, HPKJ

Ans ✓ 1. DRGF

✗ 2. FDNT

✗ 3. DGFR

✗ 4. FQCU

Question ID : 26433074739

Status : Answered

Chosen Option : 1

Q.16 दिए गए समीकरण को संतुलित करने के लिए विकल्पों में दी गई किन दो संख्याओं(अंको को नहीं) को परस्पर बदलना होगा?
(48 ÷ 3 + 6) ÷ 11 = 81 - 27 ÷ 3 × 5

- Ans
- 1. 11 और 5
 - 2. 81 और 27
 - 3. 5 और 6
 - 4. 48 और 81

Question ID : 26433082483

Status : Answered

Chosen Option : 4

Q.17 Three statements are given, followed by three conclusions numbered I, II and III. Assuming the statements to be true, even if they seem to be at variance with commonly known facts, decide which of the conclusions logically follow(s) from the statements.

Statements:

All trees are walls.

No wall is a door.

Some doors are rooms.

Conclusions:

I. Some rooms are walls.

II. No trees are doors.

III. All walls are trees.

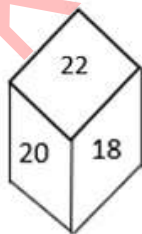
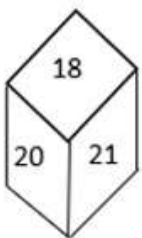
- Ans
- 1. Only conclusions II and III follow
 - 2. All conclusions follow
 - 3. Only conclusion II follows
 - 4. Only conclusions I and III follow

Question ID : 26433090989

Status : Marked For Review

Chosen Option : 3

Q.18 एक ही पासे की दो अलग-अलग स्थितियों को दिखाया गया है। '21' दर्शाने वाले फलक के विपरीत फलक पर संख्या ज्ञात कीजिए।



- Ans
- 1. 24
 - 2. 22
 - 3. 20
 - 4. 19

Question ID : 26433089507

Status : Answered

Chosen Option : 2

Q.19 कौन-सा अक्षर-समूह दी गई श्रृंखला में प्रश्नचिह्न (?) के स्थान पर आकर श्रृंखला को पूर्ण करेगा?
ZYXW, STUV, RQPO, ?, JIHG, CDEF

- Ans
- 1. JIHG
 - 2. NMLK
 - 3. KLMN
 - 4. LKMN

Question ID : 26433067721

Status : Marked For Review

Chosen Option : 3

Q.20 एक निश्चित कूट भाषा में 'CHURCH' को 'FKXUFK' और 'MUMBAI' को 'XPEDL' लिखा जाता है।
उस भाषा में 'TEMPLE' कैसे लिखा जाएगा?

- Ans
- 1. WHSPOH
 - 2. WHPSOH
 - 3. WHPOSH
 - 4. WHPSHO

Question ID : 26433080468

Status : Answered

Chosen Option : 2

Section : Part-B-General Knowledge and General awareness

Q.1 In which of the following year did Australia Host the Commonwealth Games?

- Ans
- 1. 2018
 - 2. 2014
 - 3. 2002
 - 4. 1998

Question ID : 264330115919

Status : Answered

Chosen Option : 3

Q.2 भारत में न्यूनतम मजदूरी अधिनियम किस वर्ष में लागू किया गया था?

- Ans
- 1. 1948
 - 2. 1951
 - 3. 1950
 - 4. 1949

Question ID : 264330116084

Status : Not Answered

Chosen Option : --

Q.3 _____ में, भुगतान संतुलन में संकट के कारण भारत में आर्थिक सुधारों की शुरुआत हुई।

- Ans
- 1. 1997
 - 2. 2001
 - 3. 1981
 - 4. 1991

Question ID : 264330115298

Status : Answered

Chosen Option : 4

Q.4 निम्नलिखित में से किस नर्तक कथकली से संबंधित है?

- Ans
- 1. दर्शना झावेरी
 - 2. वेम्पति चिन्ना सत्यम
 - 3. शोभना नारायण
 - 4. कुंचु कुरुप

Question ID : 264330115886

Status : Marked For Review

Chosen Option : 3

Q.5 2022-2023 के लिए ऑडिट ब्यूरो ऑफ सर्कुलेशन (ABC) के अध्यक्ष के रूप में किसे निर्वाचित किया गया है?

- Ans
- 1. प्रताप पवार
 - 2. मधुकर कामथ
 - 3. आशीष अग्रवाल
 - 4. देवेन्द्र विजय दर्डा

Question ID : 264330115001

Status : Not Answered

Chosen Option : --

Q.6 भारतीय संविधान की उद्देशिका में 'पंथनिरपेक्ष' शब्द किस वर्ष में जोड़ा गया था?

- Ans
- 1. 1976 में
 - 2. 1972 में
 - 3. 1974 में
 - 4. 1970 में

Question ID : 26433090662

Status : Answered

Chosen Option : 1

Q.7 बुद्ध शाक्य गण नामक एक छोटे गण से संबंधित थे, और एक _____ थे।

- Ans
- 1. ब्रह्म
 - 2. वैश्य
 - 3. क्षत्रिय
 - 4. शूद्र

Question ID : 26433089854

Status : Marked For Review

Chosen Option : 3

Q.8 What was the Zamindari Association popularly known as?

- Ans
- 1. Peasant's Society
 - 2. Tenant's Society
 - 3. Landholder's Society
 - 4. Farmer's Society

Question ID : 264330115693

Status : Answered

Chosen Option : 3

Q.9 अंतर्राष्ट्रीय व्यापार समझौतों में पार्टियों के रूप में _____ होते हैं।

- Ans
- 1. दो या उससे अधिक देश
 - 2. दो या उससे अधिक राज्य
 - 3. दो भिन्न शहर
 - 4. दो या उससे अधिक प्रांत

Question ID : 264330115388

Status : Answered

Chosen Option : 1

Q.10 निम्नलिखित में से क्या हरित क्रांति का एक घटक नहीं है?

- Ans
- 1. अधिक उपज देने वाली किस्म के बीज
 - 2. न्यूनतम समर्थन मूल्य
 - 3. एकाधिक फसल पैटर्न
 - 4. उर्वरकों और रसायनों का उपयोग

Question ID : 26433054629

Status : Marked For Review

Chosen Option : 2

Q.11 A reaction in which reactants combine to form products and again products recombine to form reactants is called _____ reaction.

- Ans
- 1. redox
 - 2. displacement
 - 3. irreversible
 - 4. reversible

Question ID : 264330115159
Status : Answered
Chosen Option : 4

Q.12 Blossom shower is common in _____.

- Ans
- 1. Assam
 - 2. Uttar Pradesh
 - 3. Kerala
 - 4. West Bengal

Question ID : 26433089658
Status : Answered
Chosen Option : 1

Q.13 आपराधिक प्रक्रिया _____, पुलिस अधिकारियों या जेल अधिकारियों को दोषियों या किसी अपराध के लिए गिरफ्तार किए गए लोगों से कुछ पहचान योग्य जानकारी (जैसे उंगलियों की छाप, जैविक नमूने) एकत्र करने की अनुमति देता है।

- Ans
- 1. पहचान अधिनियम, 2022
 - 2. निशान अधिनियम, 2021
 - 3. दंड अधिनियम, 2022
 - 4. नमूना अधिनियम, 2022

Question ID : 264330116232
Status : Marked For Review
Chosen Option : 3

Q.14 निम्नलिखित में से कौन-सी नृत्य शैली एडक्का संगीत वाद्ययंत्र से संबंधित है?

- Ans
- 1. ओडिसी
 - 2. मणिपुरी
 - 3. कथक
 - 4. मोहिनीअट्टम

Question ID : 26433086710
Status : Answered
Chosen Option : 2

Q.15 What is the chemical name of baking soda?

- Ans
- 1. Calcium sulphate hemihydrate
 - 2. Sodium hydrogencarbonate
 - 3. Sodium carbonate
 - 4. Calcium sulphate

Question ID : 264330115198

Status : Answered

Chosen Option : 3

Q.16 _____ provides supporting services in the main areas of industrial and agricultural production, domestic and foreign trade and commerce.

- Ans
- 1. Infrastructure
 - 2. Communication
 - 3. Trade
 - 4. Education

Question ID : 264330115545

Status : Answered

Chosen Option : 1

Q.17 निम्नलिखित में से कौन सा पुरस्कार राष्ट्रीय खेल दिवस पर प्रदान नहीं किया जाता है?

- Ans
- 1. ध्यान चंद अवार्ड
 - 2. अर्जुन अवार्ड
 - 3. परमवीर चक्र
 - 4. द्रोणाचार्य अवार्ड

Question ID : 264330116303

Status : Answered

Chosen Option : 3

Q.18 निम्नलिखित में से कौन नवंबर 2022 में भारत में मोकामा, बिहार से विधान सभा के सदस्य बने?

- Ans
- 1. नीलम देवी
 - 2. तेजस्वी यादव
 - 3. आनंदीबेन पटेल
 - 4. मोहन कुमार गुप्ता

Question ID : 264330114924

Status : Answered

Chosen Option : 2

Q.19 दशहरा, जो रावण पर भगवान राम की विजय का प्रतीक है, हिंदू माह _____ में मनाया जाता है।

- Ans
- 1. फाल्गुन
 - 2. कार्तिक
 - 3. चैत्र
 - 4. अश्विन

Question ID : 264330115100

Status : Answered

Chosen Option : 4

Q.20 भारत के राष्ट्रपति के चुनाव में राज्यों का/के कौन-सा/से सदन भाग लेता/लेते हैं/हैं?

- Ans
- 1. विधान सभा और विधान परिषद दोनों
 - 2. न तो विधान सभा और न ही विधान परिषद
 - 3. विधान सभा
 - 4. विधान परिषद

Question ID : 26433074851

Status : Answered

Chosen Option : 1

Section : Part-C-Elementary Mathematics

Q.1 एक ऊनी जैकेट का अंकित मूल्य Rs.800 है। दुकानदार प्रत्येक वस्तु पर 10% की छूट देता है। ऑफ सीजन होने के कारण दुकानदार 5% की अतिरिक्त छूट देता है। जैकेट का विक्रय मूल्य ज्ञात कीजिए।

- Ans
- 1. Rs.720
 - 2. Rs.684
 - 3. Rs.705
 - 4. Rs.668

Question ID : 26433065276

Status : Answered

Chosen Option : 2

Q.2 यदि पेट्रोल की कीमत Rs. 95/लीटर से Rs. 110/लीटर हो जाती है, तो रवि द्वारा पेट्रोल की खपत में कितने प्रतिशत की कमी की जानी चाहिए ताकि उसका खर्च उतना ही बना रहे? (दशमलव के दो स्थानों तक सही उत्तर दीजिए)

- Ans
- 1. 14.63%
 - 2. 15.29%
 - 3. 13.64%
 - 4. 16.34%

Question ID : 26433080292

Status : Answered

Chosen Option : 3

Q.3 If 3,x,12 and $2x + 7$ are in proportion, then $6x$ is :

Ans

1. $\frac{7}{2}$

2. 42

3. 21

4. $\frac{21}{2}$

Question ID : 26433081716

Status : Marked For Review

Chosen Option : 3

Q.4 625 मीटर की एक वृत्ताकार दौड़ में, X और Y एक ही बिंदु से, एक ही समय पर और क्रमशः 36 km/h और 54 km/h की चाल से दौड़ना शुरू करते हैं। यदि वे विपरीत दिशाओं में दौड़ रहे हैं तो वे ट्रैक पर पहली बार फिर से कब मिलेंगे?

Ans 1. 15 सेकंड में

2. 25 सेकंड में

3. 20 सेकंड में

4. 10 सेकंड में

Question ID : 26433076382

Status : Answered

Chosen Option : 2

Q.5 The height of a right circular cone is 24 cm and its slant height is 25 cm. What is the curved surface area of the cone?

(Use $\pi = \frac{22}{7}$)

Ans 1. 548 cm²

2. 528 cm²

3. 550 cm²

4. 648 cm²

Question ID : 26433075212

Status : Answered

Chosen Option : 3

Q.6 सबसे बड़ी संख्या जो 1560 और 2040 को पूरी तरह से विभाजित कर सकती है वह X है। $121 - X$ का मान क्या है?

Ans 1. 1

2. 20

3. 49

4. 24

Question ID : 264330116641

Status : Answered

Chosen Option : 1

Q.7 Abhi has a solid sphere of diameter 10 cm. He cuts it into two equal halves and decides to paint it. The painting cost per square cm is Rs.10. Which of the following is the approximate difference between the painting cost of the sphere and the hemispheres? (Use $\pi = 22/7$, rounded off to two decimal places.)

- Ans 1. Rs.1,571.43
 2. Rs.1,600.00
 3. Rs.1,500.556
 4. Rs.1,512.45

Question ID : 26433075331

Status : Not Answered

Chosen Option : --

Q.8 एक शहर की वर्तमान जनसंख्या 10 लाख अनुमानित है और अगले 2 वर्षों के दौरान 12.10 लाख तक बढ़ने की उम्मीद है। वृद्धि की एकसमान वार्षिक दर क्या है?

- Ans 1. 10%
 2. 12%
 3. 8%
 4. 7%

Question ID : 26433076083

Status : Answered

Chosen Option : 1

Q.9 14 व्यक्ति प्रतिदिन 7 घंटे कार्य करते हुए किसी कार्य का $\frac{5}{12}$ भाग 18 दिनों में पूरा कर सकते हैं। 21 व्यक्ति प्रतिदिन कितने घंटे कार्य करके शेष कार्य को 15 दिनों में पूरा करेंगे?

- Ans 1. $11\frac{3}{25}$ घंटे
 2. $3\frac{21}{25}$ घंटे
 3. $7\frac{21}{25}$ घंटे
 4. $9\frac{16}{25}$ घंटे

Question ID : 26433064934

Status : Not Answered

Chosen Option : --

Q.10 M, N और O क्रमशः 22, 24 और 16 दिनों में एक कार्य कर सकते हैं। यदि वे बारी-बारी से एक-एक दिन कार्य करते हैं; जैसे कि M पहले दिन कार्य करता है, N दूसरे दिन कार्य करता है, O तीसरे दिन कार्य करता है और फिर M चौथे दिन कार्य करता है और इसी प्रकार यह क्रम जारी रहता है, तो कार्य लगभग कितने दिनों में पूरा होगा?

- Ans 1. 20 दिन
 2. 19 दिन
 3. 17 दिन
 4. 16 दिन

Question ID : 264330116916

Status : Answered

Chosen Option : 1

Q.11 6, 9, 18 का चौथा समानुपाती _____ है।

Ans 1. 15

2. 24

3. 9

4. 27

Question ID : 26433082646

Status : Answered

Chosen Option : 4

Q.12 महेश द्वारा पाँच विषयों में प्राप्त औसत अंक 62 है और वह छठे विषय में 71 अंक प्राप्त करता है। महेश द्वारा सभी छह विषयों में प्राप्त अंकों का औसत कितना है?

Ans 1. 64.6

2. 65.5

3. 63.5

4. 62.4

Question ID : 26433080287

Status : Answered

Chosen Option : 3

Q.13 दो संख्याओं का योग 21 है और उनके महत्तम समापवर्तक और लघुत्तम समापवर्त्य क्रमशः 7 और 14 हैं। दो संख्याओं के व्युत्क्रमों का योग _____ है।

Ans

1. $\frac{3}{14}$

2. $\frac{1}{14}$

3. $\frac{3}{4}$

4. $\frac{1}{4}$

Question ID : 26433082591

Status : Answered

Chosen Option : 1

Q.14 एक दुकानदार हर एक दर्जन पेन खरीदने पर एक पेन मुफ्त देता है। दुकानदार द्वारा दी जाने वाली छूट % की गणना करें। सभी पेनों का क्रय मूल्य समान है। (दशमलव के बाद एक स्थान तक पूर्णांकित)

- Ans
- 1. 7.6 प्रतिशत
 - 2. 6.3 प्रतिशत
 - 3. 12.5 प्रतिशत
 - 4. 8.3 प्रतिशत

Question ID : 26433081572

Status : Answered

Chosen Option : 1

Q.15 यदि एक व्यक्ति पहाड़ की तराई से चोटी तक की यात्रा में 6 km/h की चाल से पहाड़ी पर चढ़ता है और 10 km/h की चाल से वापस आता है, तो यात्रा में उसकी औसत चाल (km/h में) ज्ञात करें।

- Ans
- 1. 4
 - 2. 7.5
 - 3. 6.5
 - 4. 8

Question ID : 26433079907

Status : Answered

Chosen Option : 2

Q.16 भिन्न $\frac{3}{4}$ की प्रतिशत तुल्यता (Percentage Equivalence) ज्ञात करें।

- Ans
- 1. 75%
 - 2. 70%
 - 3. 65%
 - 4. 80%

Question ID : 26433075101

Status : Answered

Chosen Option : 1

Q.17 एक व्यक्ति वार्षिक रूप से चक्रवृद्धि ब्याज की एक निश्चित दर पर 5 वर्ष के लिए ₹30,000 का निवेश करता है। 1 वर्ष के अंत में, यदि राशि ₹34,200 हो जाती है, तो दूसरे वर्ष के अंत में राशि ज्ञात कीजिए।

- Ans
- 1. ₹45,432
 - 2. ₹38,988
 - 3. ₹39,876
 - 4. ₹44,365

Question ID : 26433080039

Status : Answered

Chosen Option : 2

Q.18 तीन साइकिलें Rs.16,500 में खरीदी जाती हैं और परिवहन लागत Rs.200 प्रति साइकिल है। 8% का लाभ प्राप्त करने के लिए प्रत्येक साइकिल का विक्रय मूल्य (Rs. में) कितना होना चाहिए?

- Ans
- 1. 6651
 - 2. 5661
 - 3. 6156
 - 4. 5166

Question ID : 26433071253

Status : Answered

Chosen Option : 3

Q.19 दो ट्रेनें एक ही समय में बैंगलोर और चेन्नई से चलना शुरू करती हैं और एक दूसरे की ओर 80 km/h और 95 km/h की चाल से आगे बढ़ती हैं। जब वे मिलती हैं, तो पता चलता है कि एक ट्रेन ने दूसरी से 180 km अधिक यात्रा की है। बैंगलोर और चेन्नई के बीच की दूरी _____ है।

- Ans
- 1. 400 km
 - 2. 1200 km
 - 3. 345 km
 - 4. 2100 km

Question ID : 26433075888

Status : Not Answered

Chosen Option : --

Q.20 विनोद एक वस्तु खरीदता है और उसे 5% की हानि पर बेचता है। यदि वह इसे 20% कम पर खरीदता और Rs.25 अधिक में बेचता, तो उसे 20% का लाभ होता। वस्तु का वास्तविक क्रय मूल्य ज्ञात करें।

- Ans
- 1. Rs.2,250
 - 2. Rs.2,000
 - 3. Rs.2,500
 - 4. Rs.1,850

Question ID : 26433075466

Status : Answered

Chosen Option : 3

Section : Part-D-English

Q.1 Select the most appropriate option that can substitute the underlined segment in the given sentence. If there is no need to substitute it, select 'No substitution required'.

While I was driving the car, my brother talked over phone to his kid.

- Ans
- 1. talking over the phone
 - 2. had talked over the phone
 - 3. was talking over the phone
 - 4. No substitution required

Question ID : 26433088559

Status : Not Answered

Chosen Option : --

Q.2 Select the most appropriate ANTONYM of the given word.

Salient

- Ans
- 1. Clear
 - 2. Striking
 - 3. Noteworthy
 - 4. Negligible

Question ID : 26433072667
Status : Not Answered
Chosen Option : --

Q.3 Select the most appropriate option to fill in the blank.

Most often, child labour occurs when families _____ financial challenges or uncertainty – whether due to poverty, sudden illness of a caregiver or job loss of a primary wage earner.

- Ans
- 1. happen
 - 2. contend
 - 3. face
 - 4. emulate

Question ID : 26433084864
Status : Not Answered
Chosen Option : --

Q.4 Select the most appropriate meaning of the given idiom.

Keep a straight face

- Ans
- 1. To be stingy
 - 2. Look serious though you want to laugh
 - 3. To pretend to be cheerful
 - 4. When a plan suddenly fails

Question ID : 26433072683
Status : Not Answered
Chosen Option : --

Q.5 Select the most appropriate option to fill in the blank.

It is better to end up certain matters than _____ a dead horse.

- Ans
- 1. coaching
 - 2. beating
 - 3. riding
 - 4. talking

Question ID : 26433073211
Status : Not Answered
Chosen Option : --

Q.6 Select the most appropriate ANTONYM of the given word.
Quiet

- Ans 1. Commotion
 2. Stillness
 3. Compose
 4. Completely

Question ID : 26433086344
Status : Not Answered
Chosen Option : --

Q.7 Select the most appropriate option to fill in the blank.

The cat couldn't find a _____ place for its kittens in the backyard of the house.

- Ans 1. proper
 2. stern
 3. drastic
 4. vague

Question ID : 26433073788
Status : Not Answered
Chosen Option : --

Q.8 Select the most appropriate homophone of the given word.

Ate

- Ans 1. Hate
 2. Eight
 3. Egg
 4. Weight

Question ID : 26433086351
Status : Not Answered
Chosen Option : --

Q.9 Select the most appropriate option that can substitute the underlined segment in the given sentence. If there is no need to substitute it, select 'No substitution required'.

Robinson Crusoe puzzles when he discovered a footprint in the sand.

- Ans 1. was puzzled
 2. is puzzled
 3. has puzzled
 4. No substitution required

Question ID : 264330101273
Status : Not Answered
Chosen Option : --

Q.10 Select the INCORRECTLY spelt word.

- Ans
- 1. Abundant
 - 2. Engineer
 - 3. Ecstasy
 - 4. Pionier

Question ID : 26433073652
Status : Not Answered
Chosen Option : --

Q.11 Select the most appropriate option to fill in the blank.

The play usually needs half an hour for its preparation and makeup, and its performance _____ within ten minutes.

- Ans
- 1. has ended
 - 2. ended
 - 3. ends
 - 4. would end

Question ID : 26433089301
Status : Not Answered
Chosen Option : --

Q.12 Select the most appropriate synonym of the word 'doubtful' from the following sentence.

He was in a dilemma about the completion of the project investigation because of his health issues.

- Ans
- 1. Investigation
 - 2. Dilemma
 - 3. Project
 - 4. Completion

Question ID : 26433072262
Status : Not Answered
Chosen Option : --

Q.13 Select the most appropriate synonym of the given word.

Attain

- Ans
- 1. Achieve
 - 2. Commence
 - 3. Destroy
 - 4. Abandon

Question ID : 26433073690
Status : Not Answered
Chosen Option : --

Q.14 Select the most appropriate synonym of the underlined word in the given sentence.

Incompetent people keep on blaming others for their failures.

- Ans
- 1. inevitable
 - 2. incongruous
 - 3. inefficient
 - 4. inappropriate

Question ID : 26433092109
Status : Not Answered
Chosen Option : --

Q.15 Select the most appropriate ANTONYM of the given word.

Restore

- Ans
- 1. Random
 - 2. Productive
 - 3. Recover
 - 4. Destroy

Question ID : 26433090796
Status : Not Answered
Chosen Option : --

Comprehension:

In the following passage, some words have been deleted. Read the passage carefully and select the most appropriate option to fill in each blank.

The world is becoming increasingly (1)_____. Since 2007, more than half of the world's population has been living in cities, and that share is (2)_____ to rise to 60 per cent by 2030. Cities and metropolitan areas are powerhouses of economic growth—(3)_____ about 60 per cent of global GDP. However, they also account for about 70 per cent of global carbon emissions and over 60 per cent of (4)_____ use. Rapid urbanisation is resulting in a growing number of slum dwellers, inadequate and (5)_____ infrastructure and services, worsening air pollution and unplanned urban sprawl.

SubQuestion No : 16

Q.16 Select the most appropriate option to fill in blank number 1.

- Ans
- 1. localised
 - 2. intensified
 - 3. decentralised
 - 4. urbanised

Question ID : 26433088180
Status : Not Answered
Chosen Option : --

Comprehension:

In the following passage, some words have been deleted. Read the passage carefully and select the most appropriate option to fill in each blank.

The world is becoming increasingly (1)_____. Since 2007, more than half of the world's population has been living in cities, and that share is (2)_____ to rise to 60 per cent by 2030. Cities and metropolitan areas are powerhouses of economic growth—(3)_____ about 60 per cent of global GDP. However, they also account for about 70 per cent of global carbon emissions and over 60 per cent of (4)_____ use. Rapid urbanisation is resulting in a growing number of slum dwellers, inadequate and (5)_____ infrastructure and services, worsening air pollution and unplanned urban sprawl.

SubQuestion No : 17

Q.17 Select the most appropriate option to fill in blank number 2.

- Ans
- 1. planned
 - 2. multiplied
 - 3. projected
 - 4. contrived

Question ID : 26433088181

Status : Not Answered

Chosen Option : --

Comprehension:

In the following passage, some words have been deleted. Read the passage carefully and select the most appropriate option to fill in each blank.

The world is becoming increasingly (1)_____. Since 2007, more than half of the world's population has been living in cities, and that share is (2)_____ to rise to 60 per cent by 2030. Cities and metropolitan areas are powerhouses of economic growth—(3)_____ about 60 per cent of global GDP. However, they also account for about 70 per cent of global carbon emissions and over 60 per cent of (4)_____ use. Rapid urbanisation is resulting in a growing number of slum dwellers, inadequate and (5)_____ infrastructure and services, worsening air pollution and unplanned urban sprawl.

SubQuestion No : 18

Q.18 Select the most appropriate option to fill in blank number 3.

- Ans
- 1. exploiting
 - 2. causing
 - 3. attempting
 - 4. contributing

Question ID : 26433088182

Status : Not Answered

Chosen Option : --

Comprehension:

In the following passage, some words have been deleted. Read the passage carefully and select the most appropriate option to fill in each blank.

The world is becoming increasingly (1)_____. Since 2007, more than half of the world's population has been living in cities, and that share is (2)_____ to rise to 60 per cent by 2030. Cities and metropolitan areas are powerhouses of economic growth—(3)_____ about 60 per cent of global GDP. However, they also account for about 70 per cent of global carbon emissions and over 60 per cent of (4)_____ use. Rapid urbanisation is resulting in a growing number of slum dwellers, inadequate and (5)_____ infrastructure and services, worsening air pollution and unplanned urban sprawl.

SubQuestion No : 19

Q.19 Select the most appropriate option to fill in blank number 4.

- Ans** 1. resource
 2. assets
 3. nature
 4. wealth

Question ID : 26433088183

Status : Not Answered

Chosen Option : --

Comprehension:

In the following passage, some words have been deleted. Read the passage carefully and select the most appropriate option to fill in each blank.

The world is becoming increasingly (1)_____. Since 2007, more than half of the world's population has been living in cities, and that share is (2)_____ to rise to 60 per cent by 2030. Cities and metropolitan areas are powerhouses of economic growth—(3)_____ about 60 per cent of global GDP. However, they also account for about 70 per cent of global carbon emissions and over 60 per cent of (4)_____ use. Rapid urbanisation is resulting in a growing number of slum dwellers, inadequate and (5)_____ infrastructure and services, worsening air pollution and unplanned urban sprawl.

SubQuestion No : 20

Q.20 Select the most appropriate option to fill in blank number 5.

- Ans** 1. necessary
 2. destructed
 3. overburdened
 4. redundant

Question ID : 26433088184

Status : Not Answered

Chosen Option : --

Q.1 “प्रत्येक व्यक्ति को स्वयं आत्मनिर्भर होना चाहिए।”
उपरोक्त वाक्य का शुद्ध रूप क्या होगा?

- Ans
- 1. प्रत्येक व्यक्ति को स्वयं आत्मनिर्भर रहना चाहिए।
 - 2. प्रत्येक व्यक्ति को आत्मनिर्भर मिलाना चाहिए।
 - 3. प्रत्येक व्यक्ति को आत्मनिर्भर होना चाहिए।
 - 4. प्रत्येक व्यक्ति को स्वयं में आत्मनिर्भर होना चाहिए।

Question ID : 26433066998

Status : Answered

Chosen Option : 3

Q.2 “नम्रतापूर्वक याचना करना _____ कहलाता है।”
उपरोक्त वाक्य में रिक्त स्थान पर किस शब्द का प्रयोग उपयुक्त होगा?

- Ans
- 1. आग्रह
 - 2. अनुग्रह
 - 3. अनुदेश
 - 4. अनुरोध

Question ID : 26433067007

Status : Answered

Chosen Option : 1

Q.3 निम्न में से किस वाक्य में वर्तनी की त्रुटि है, पहचान करें?

- Ans
- 1. नेहा की स्कूल में मन नहीं लगाता।
 - 2. सुजाता मनोहर के गाँव से है।
 - 3. रमेश बाजार से सब्जी लाया।
 - 4. महेंद्र बड़े जमींदार का बेटा है।

Question ID : 26433067108

Status : Answered

Chosen Option : 1

Q.4 “मनुष्य को किसी के प्रति द्वेष नहीं रखना चाहिए।”
उक्त वाक्य में प्रयुक्त ‘द्वेष’ के स्थान पर उसके समानार्थी शब्द का प्रयोग निम्न में से किस वाक्य में किया गया है?

- Ans
- 1. मनुष्य को किसी के प्रति ममता नहीं रखनी चाहिए।
 - 2. मनुष्य को किसी के प्रति ईर्ष्या नहीं रखनी चाहिए।
 - 3. मनुष्य को किसी के प्रति क्रोध नहीं रखना चाहिए।
 - 4. मनुष्य को किसी के प्रति प्रतिशोध का भाव नहीं रखना चाहिए।

Question ID : 26433067029

Status : Answered

Chosen Option : 2

Q.5 निम्न शब्दों में से आश्रम का पर्याय शब्द है-

- Ans
- 1. साकेत
 - 2. थान
 - 3. अखाड़ा
 - 4. निवास

Question ID : 26433074415

Status : Answered

Chosen Option : 2

Q.6 आज शीतल पवन बह रही है।

उपरोक्त वाक्य में रेखांकित शब्द के उचित पर्यायवाची शब्द का चयन विकल्पों में से कीजिए।

- Ans
- 1. अनिल
 - 2. अनल
 - 3. क्षणदा
 - 4. बतासा

Question ID : 26433079724

Status : Answered

Chosen Option : 2

Q.7 जिससे किसी कार्य के करने का बोध होता है, उसे कहते हैं-

- Ans
- 1. संज्ञा
 - 2. विशेषण
 - 3. सर्वनाम
 - 4. क्रिया

Question ID : 26433085036

Status : Answered

Chosen Option : 4

Q.8 निम्न वाक्यांश के लिए एक शब्द क्या होगा?

जिसके शेखर पर चन्द्र हो

- Ans
- 1. चन्द्रकान्त
 - 2. चन्द्ररेखा
 - 3. चन्द्रशेखर
 - 4. चन्द्रपाणि

Question ID : 26433070085

Status : Answered

Chosen Option : 3

Q.9 'जो निगाह से परे हो' इस वाक्यांश के लिए सार्थक शब्द है -

- Ans
- 1. दृष्टिक्षेप
 - 2. परोक्ष
 - 3. प्रत्यागत
 - 4. प्रत्यक्ष

Question ID : 26433062336

Status : Marked For Review

Chosen Option : 1

Q.10 दिए गए वाक्य के रेखांकित शब्द को सर्वोचित विकल्प से प्रतिस्थापित करें।
बरात का अभिवादन आत्मीयता से किया गया।

- Ans
- 1. स्वागत
 - 2. अपमान
 - 3. अभिनंदन
 - 4. सम्मान

Question ID : 26433069914

Status : Answered

Chosen Option : 1

Q.11 निम्नलिखित विकल्पों में से कौन सा एक वाक्य मूल क्रिया-विशेषण से सम्बन्ध नहीं रखता है?

- Ans
- 1. तुम ठीक कह रहे हो।
 - 2. सीता खेलती-कूदती रहती है।
 - 3. वह अचानक आ गया।
 - 4. नगर यहाँ से दूर पड़ता है।

Question ID : 26433062957

Status : Answered

Chosen Option : 2

Q.12 'उसकी महिला भी उसके साथ आई है।' इस वाक्य में रेखांकित शब्द के स्थान पर सर्वोपयुक्त शब्द निम्न में से क्या होगा?

- Ans
- 1. पत्नी
 - 2. स्त्री
 - 3. मित्र
 - 4. साथी

Question ID : 26433062781

Status : Answered

Chosen Option : 1

Q.13 नीचे दिए गए मुहावरे में रेखांकित अंश के स्थान पर सबसे उपयुक्त विकल्प कौन-सा होगा?
तिल का पहाड़ करना

- Ans
- 1. पेड़
 - 2. खजूर
 - 3. आम
 - 4. ताड़

Question ID : 26433066746
Status : Answered
Chosen Option : 4

Q.14 विकल्पों में दिया गया कौन सा शब्द निम्न वाक्य में रेखांकित अंश के स्थान पर आ सकता है?
वह सचमुच में बीमार है।

- Ans
- 1. वाकई
 - 2. सत्य
 - 3. झूठ
 - 4. सच

Question ID : 26433066878
Status : Answered
Chosen Option : 4

Q.15 निम्नलिखित विकल्पों में से 'तलवार की धार पर चलना' मुहावरे का अर्थ क्या है?

- Ans
- 1. अनावश्यक सलाह देना
 - 2. ताकतवर होना
 - 3. जोखिम-भरा काम करना
 - 4. चाल सफल न होना

Question ID : 26433062554
Status : Answered
Chosen Option : 3

Comprehension:

निम्नलिखित गद्यांश में कुछ शब्दों को हटा दिया गया है। दिए गए विकल्पों की सहायता से रिक्त स्थानों की पूर्ति कीजिए। प्रत्येक संख्या के लिए सबसे उपयुक्त विकल्प का चयन कीजिए।
मनुष्य विवेकशील 1. _____ है। सब कुछ जानने और समझने की 2. _____ उसमें विद्यमान है। विशेष ज्ञान रूप विज्ञान उसकी इसी 3. _____ वृत्ति का परिणाम है। पेड़ से फल को 4. _____ गिरते हुए देखा तो जिज्ञासा हुई कि वस्तुएँ नीचे पृथ्वी पर ही क्यों गिरती हैं? विज्ञान ने गुरुत्वाकर्षण का महत्त्वपूर्ण 5. _____ दिया।

SubQuestion No : 16

Q.16 रिक्त स्थान 1 की पूर्ति के लिए सबसे उपयुक्त विकल्प का चयन कीजिए।

- Ans
- 1. प्राणी
 - 2. आविष्कार
 - 3. असाध्य
 - 4. मानव

Question ID : 264330111041
Status : Answered
Chosen Option : 1

Comprehension:

निम्नलिखित गद्यांश में कुछ शब्दों को हटा दिया गया है। दिए गए विकल्पों की सहायता से रिक्त स्थानों की पूर्ति कीजिए। प्रत्येक संख्या के लिए सबसे उपयुक्त विकल्प का चयन कीजिए।
मनुष्य विवेकशील 1. _____ है। सब कुछ जानने और समझने की 2. _____ उसमें विद्यमान है। विशेष ज्ञान रूप विज्ञान उसकी इसी 3. _____ वृत्ति का परिणाम है। पेड़ से फल को 4. _____ गिरते हुए देखा तो जिज्ञासा हुई कि वस्तुएँ नीचे पृथ्वी पर ही क्यों गिरती हैं? विज्ञान ने गुरुत्वाकर्षण का महत्वपूर्ण 5. _____ दिया।

SubQuestion No : 17

Q.17 रिक्त स्थान 2 की पूर्ति के लिए सबसे उपयुक्त विकल्प का चयन कीजिए।

- Ans
- 1. मशीन
 - 2. गुंजाइश
 - 3. घड़ियाँ
 - 4. इच्छा

Question ID : 264330111042

Status : Answered

Chosen Option : 4

Comprehension:

निम्नलिखित गद्यांश में कुछ शब्दों को हटा दिया गया है। दिए गए विकल्पों की सहायता से रिक्त स्थानों की पूर्ति कीजिए। प्रत्येक संख्या के लिए सबसे उपयुक्त विकल्प का चयन कीजिए।
मनुष्य विवेकशील 1. _____ है। सब कुछ जानने और समझने की 2. _____ उसमें विद्यमान है। विशेष ज्ञान रूप विज्ञान उसकी इसी 3. _____ वृत्ति का परिणाम है। पेड़ से फल को 4. _____ गिरते हुए देखा तो जिज्ञासा हुई कि वस्तुएँ नीचे पृथ्वी पर ही क्यों गिरती हैं? विज्ञान ने गुरुत्वाकर्षण का महत्वपूर्ण 5. _____ दिया।

SubQuestion No : 18

Q.18 रिक्त स्थान 3 की पूर्ति के लिए सबसे उपयुक्त विकल्प का चयन कीजिए।

- Ans
- 1. रोग
 - 2. शांत
 - 3. जिज्ञासा
 - 4. विचित्र

Question ID : 264330111043

Status : Marked For Review

Chosen Option : 3

Comprehension:

निम्नलिखित गद्यांश में कुछ शब्दों को हटा दिया गया है। दिए गए विकल्पों की सहायता से रिक्त स्थानों की पूर्ति कीजिए। प्रत्येक संख्या के लिए सबसे उपयुक्त विकल्प का चयन कीजिए।
मनुष्य विवेकशील 1. _____ है। सब कुछ जानने और समझने की 2. _____ उसमें विद्यमान है। विशेष ज्ञान रूप विज्ञान उसकी इसी 3. _____ वृत्ति का परिणाम है। पेड़ से फल को 4. _____ गिरते हुए देखा तो जिज्ञासा हुई कि वस्तुएँ नीचे पृथ्वी पर ही क्यों गिरती हैं? विज्ञान ने गुरुत्वाकर्षण का महत्वपूर्ण 5. _____ दिया।

SubQuestion No : 19

Q.19 रिक्त स्थान 4 की पूर्ति के लिए सबसे उपयुक्त विकल्प का चयन कीजिए।

- Ans
- 1. उठाते
 - 2. हमेशा
 - 3. नीचे
 - 4. आते

Question ID : 264330111044

Status : Answered

Chosen Option : 3

Comprehension:

निम्नलिखित गद्यांश में कुछ शब्दों को हटा दिया गया है। दिए गए विकल्पों की सहायता से रिक्त स्थानों की पूर्ति कीजिए। प्रत्येक संख्या के लिए सबसे उपयुक्त विकल्प का चयन कीजिए।
मनुष्य विवेकशील 1. _____ है। सब कुछ जानने और समझने की 2. _____ उसमें विद्यमान है। विशेष ज्ञान रूप विज्ञान उसकी इसी 3. _____ वृत्ति का परिणाम है। पेड़ से फल को 4. _____ गिरते हुए देखा तो जिज्ञासा हुई कि वस्तुएँ नीचे पृथ्वी पर ही क्यों गिरती हैं? विज्ञान ने गुरुत्वाकर्षण का महत्वपूर्ण 5. _____ दिया।

SubQuestion No : 20

Q.20 रिक्त स्थान 5 की पूर्ति के लिए सबसे उपयुक्त विकल्प का चयन कीजिए।

Ans 1. सिद्धांत

2. सूचना

3. ज्ञान

4. क्षेत्र

Question ID : 264330111045

Status : Answered

Chosen Option : 1

KD Job Updates

Constable GD in CAPFs SSF Rifleman GD in Assam Rifles and Sepoy in NCB Examination 2022

Roll Number	KD Job Updates
Candidate Name	KD Job Updates
Venue Name	iON Digital Zone iDZ Chandpura
Exam Date	02/02/2023
Exam Time	5:15 PM - 6:15 PM
Subject	Constable GD Examination 2022

Section : Part-A-General Intelligence and Reasoning

Q.1 उस विकल्प का चयन कीजिए जो तीसरे शब्द से उसी प्रकार संबंधित है जिस प्रकार दूसरा शब्द पहले शब्द से संबंधित है। (शब्दों को अर्थपूर्ण शब्दों के रूप में मानना है और उन्हें शब्द में अक्षरों/व्यंजनों/स्वरों की संख्या के आधार पर एक-दूसरे से संबंधित नहीं करना है।)
लेखक : कलम :: डॉक्टर : _____

- Ans
- 1. धातु
 - 2. स्टेथोस्कोप
 - 3. शार्पनर
 - 4. इरेज़र

Question ID : 26433079400

Status : Answered

Chosen Option : 2

Q.2 एक निश्चित कूट भाषा में, 'FIT' को 'FGIST' के रूप में लिखा जाता है और 'KIN' को 'KLIMN' के रूप में लिखा जाता है। उसी भाषा में 'JOY' को कैसे लिखा जाएगा?

- Ans
- 1. KK0XX
 - 2. JJOYY
 - 3. KJOYX
 - 4. JKOXY

Question ID : 26433069643

Status : Answered

Chosen Option : 4

Q.3 दर्पण को दाईं ओर रखे जाने पर, निम्नलिखित में से कौन-सी आकृति दी गई प्रश्न आकृति

का सटीक दर्पण प्रतिबिम्ब होगी?

प्रश्न आकृति:



Ans

✓ 1.



✗ 2.



✗ 3.



✗ 4.



Question ID : 26433087086

Status : Answered

Chosen Option : 1

Q.4 एक कूट भाषा में 'sweet fruits' को 're de', 'mango is sweet' को 'de me ke', 'orange is citrus' को 'ke le pe', 'eat orange' को 'pe ne' के रूप में कूटबद्ध किया जाता है। शब्द 'citrus' के लिए कूट क्या होगा?

- Ans
- 1. pe
 - 2. ke
 - 3. de
 - 4. le

Question ID : 26433082268

Status : Answered

Chosen Option : 4

Q.5 'A + B' का अर्थ है कि 'A, B का भाई है'
'A - B' का अर्थ है कि 'A, B की पत्नी है'
'A × B' का अर्थ है कि 'A, B का पुत्र है'
'A ÷ B' का अर्थ है कि 'A, B का पति है'
यदि $P + Q - S + R \times L \div M$ है, तो निम्नलिखित में से कौन-सा कथन सही नहीं है?

- Ans
- 1. P, S की पत्नी का भाई है।
 - 2. Q, R के भाई की पत्नी है।
 - 3. M, R की माता है।
 - 4. M, Q की बहन है।

Question ID : 26433069656

Status : Answered

Chosen Option : 4

Q.6 दिए गए विकल्पों में से उस अक्षर-समूह का चयन कीजिए जो निम्न श्रृंखला में प्रश्न-चिह्न (?) के स्थान पर आ सकता है।
BWLS, FTPW, JQTA, ? , RKBI

- Ans
- 1. NXCR
 - 2. JLPR
 - 3. LKPE
 - 4. NNXE

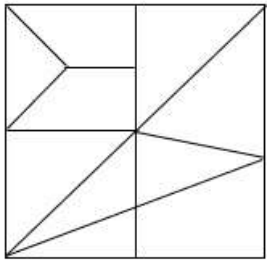
Question ID : 26433074741

Status : Answered

Chosen Option : 4

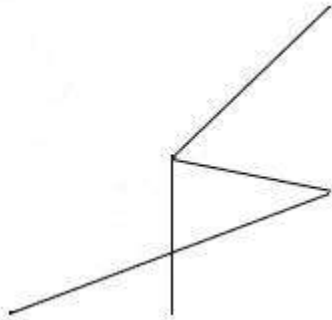
Q.7 वह विकल्प चित्र चुनिए, जो प्रस्तुत चित्र में अंतर्निहित है। (घुमाना अनुमन्य नहीं

है)




Ans

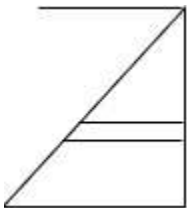
✓ 1.



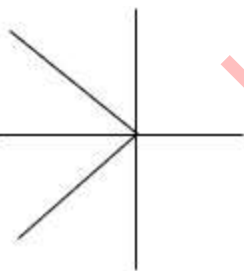
✗ 2.



✗ 3.



✗ 4.



KD Job Updates

Question ID : 26433069357

Status : Answered

Chosen Option : 1

Q.8 उस विकल्प का चयन करें, जो पाँचवीं संख्या से उसी प्रकार संबंधित है, जिस प्रकार दूसरी संख्या, पहली संख्या से संबंधित है और चौथी संख्या, तीसरी संख्या से संबंधित है।
320 : 4 :: 40 : 2 :: 1715 : ?

Ans 1.7

2.5

3.10

4.9

Question ID : 26433069422

Status : Not Attempted and
Marked For Review

Chosen Option : --

Q.9 कौन-सा अक्षर-समूह दी गई श्रृंखला में प्रश्नचिह्न (?) के स्थान पर आकर श्रृंखला को पूर्ण करेगा?
ALTY, DNVA, ?, JRZE, MTBG

Ans 1. GQYC

2. GPYC

3. GPXC

4. GQXC

Question ID : 26433067950

Status : Answered

Chosen Option : 3

Q.10 छः व्यक्ति A, B, C, D, E और F एक पंक्ति में उत्तर की ओर मुख करके बैठे हैं। D पंक्ति के दाएं सिरे पर बैठा है। F, D के बाईं ओर ठीक बगल में बैठा है। A और F के बीच में केवल B बैठा है। C और A के बीच में केवल E बैठा है। A के दाईं ओर ठीक बगल में कौन बैठा है?

Ans 1. F

2. E

3. B

4. D

Question ID : 26433074626

Status : Answered

Chosen Option : 3

Q.11 यदि @ का अर्थ ÷, # का अर्थ ×, \$ का अर्थ + और % का अर्थ - है, तो निम्नलिखित समीकरण का मान क्या होगा?

$$10 \# 25 @ 5 \$ 20 \% 10 = ?$$

Ans 1. 40

2. 60

3. 50

4. 65

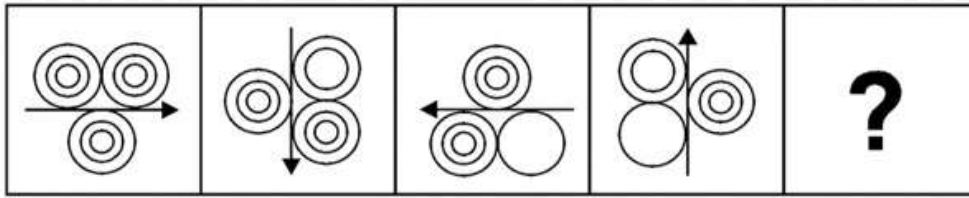
Question ID : 26433085655

Status : Answered

Chosen Option : 2

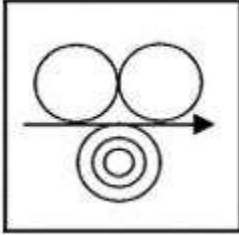
Q.12 दिए गए विकल्पों में से उस आकृति का चयन करें जो निम्नलिखित श्रृंखला में

प्रश्नवाचक चिह्न (?) का स्थान ले सकती है।

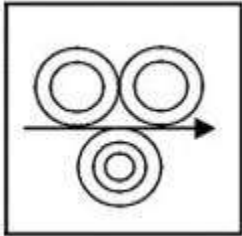


Ans

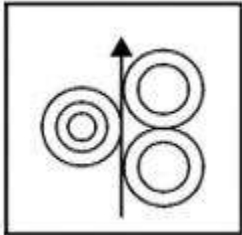
✓ 1.



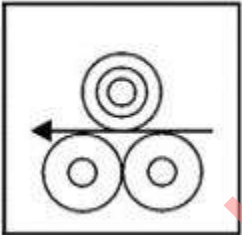
✗ 2.



✗ 3.



✗ 4.



Question ID : 26433080485

Status : Answered

Chosen Option : 1

Q.13 किस विकल्प में निम्नलिखित शब्दों का वह क्रम दिया गया है, जिस क्रम में वे अंग्रेजी शब्दकोश में आते हैं?
1 fondant
2 fountain
3 follow
4 forgive
5 forget

- Ans 1. 3,5,1,2,4
 2. 3,1,5,4,2
 3. 3,4,1,5,2
 4. 3,1,4,5,2

Question ID : 26433069309

Status : Answered

Chosen Option : 4

Q.14 उस विकल्प का चयन कीजिए जो तीसरे शब्द से उसी प्रकार संबंधित है जिस प्रकार दूसरा शब्द पहले शब्द से संबंधित है। (शब्दों को अर्थपूर्ण शब्दों के रूप में मानना है और उन्हें शब्द में अक्षरों/व्यंजनों/स्वरों की संख्या के आधार पर एक-दूसरे से संबंधित नहीं करना है।)
हाथी : हर्ड :: मछली : ?

- Ans 1. नदी
 2. शोल
 3. समुद्र
 4. एकेरियम

Question ID : 26433067375

Status : Answered

Chosen Option : 2

Q.15 तीन कथन दिए गए हैं, जिनके बाद तीन निष्कर्ष I, II और III दिए गए हैं। कथनों को सत्य मानते हुए, भले ही वे सामान्य रूप से ज्ञात तथ्यों से भिन्न प्रतीत होते हों, निर्धारित करें कि कौन-सा/से निष्कर्ष कथनों का तार्किक रूप से अनुसरण करता है/करते हैं।

कथन:

सभी लड़के पुरुष हैं।
कुछ पुरुष लड़कियां हैं।
सभी लड़कियां महिलाएँ हैं।

निष्कर्ष:

I. सभी लड़के लड़कियां हैं।
II. सभी पुरुष महिलाएँ हैं।
III. कुछ लड़कियां पुरुष हैं।

- Ans 1. केवल निष्कर्ष II और III अनुसरण करते हैं
 2. सभी निष्कर्ष अनुसरण करते हैं
 3. केवल निष्कर्ष I और III अनुसरण करते हैं
 4. केवल निष्कर्ष III अनुसरण करता है

Question ID : 26433090985

Status : Answered

Chosen Option : 4

Q.16 नीचे दिए गए समीकरण को गणितीय रूप से सही बनाने के लिए किन दो चिन्हों को परस्पर बदलना चाहिए?

$$25 \times 16 + 8 - 36 \div 18 = 32$$

Ans 1. + और ÷

2. - और +

3. × और -

4. ÷ और ×

Question ID : 264330117513

Status : Answered

Chosen Option : 1

Q.17 छः विद्यार्थी एक वृत्ताकार मेज के परितः मेज के केंद्र की ओर मुख करके बैठे हैं। मैरी, सुसान के बाईं ओर दूसरे स्थान पर है। एलिस, सुसान और प्रिया के ठीक बगल में है। रिया, प्रिया के दाईं ओर तीसरे स्थान पर बैठी है। जोन, रिया के बाईं ओर दूसरे स्थान पर बैठा है। प्रिया, सुसान के दाईं ओर दूसरे स्थान पर बैठी है। इनमें से कौन मैरी और सुसान के ठीक बगल में बैठा/बैठी है?

Ans 1. एलिस

2. रिया

3. प्रिया

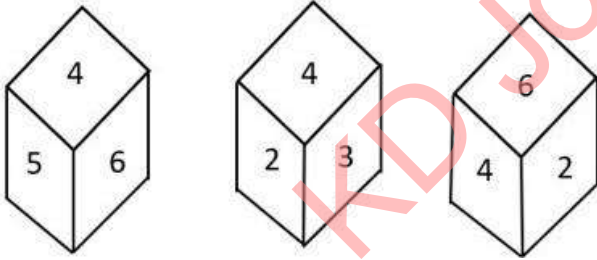
4. जोन

Question ID : 26433081772

Status : Answered

Chosen Option : 2

Q.18 एक ही पासे की तीन अलग-अलग स्थितियों को दर्शाया गया है। '4' दर्शाने वाले फलक के विपरीत फलक की संख्या ज्ञात कीजिए।



Ans 1. 2

2. 5

3. 1

4. 3

Question ID : 26433090079

Status : Answered

Chosen Option : 3

Q.19 दिए गए विकल्पों में से वह संख्या चुनिए, जो निम्नलिखित श्रृंखला में प्रश्न-चिह्न (?) को प्रतिस्थापित कर सके।
23, 32, 14, 41, 5, 50, ?

- Ans 1. -4
 2. 2
 3. -2
 4. -3

Question ID : 26433078925
Status : Answered
Chosen Option : 1

Q.20 निम्नलिखित में से कौन-सी संख्या दी गई श्रृंखला में प्रश्न-चिह्न (?) को प्रतिस्थापित करेगी?
51, 52, 56, ?, 81, 106

- Ans 1. 67
 2. 65
 3. 66
 4. 64

Question ID : 26433069385
Status : Answered
Chosen Option : 2

Section : Part-B-General Knowledge and General awareness

Q.1 लोहा और इस्पात _____ उद्योग हैं।

- Ans 1. हथकरघा
 2. कृषि
 3. खनिज आधारित
 4. कृषि आधारित

Question ID : 264330115404
Status : Answered
Chosen Option : 3

Q.2 भारत में, किसके द्वारा मुख्यमंत्री की नियुक्ति की जाती है?

- Ans 1. उप राष्ट्रपति
 2. प्रधानमंत्री
 3. राज्यपाल
 4. राष्ट्रपति

Question ID : 26433089185
Status : Answered
Chosen Option : 3

Q.3 भारत में, मानसून की अवधि जून के आरंभ से सितंबर के मध्य तक _____ दिनों के बीच होती है।

Ans 1. 200 - 240

2. 100 - 120

3. 60 - 80

4. 260 - 280

Question ID : 26433089660

Status : Answered

Chosen Option : 3

Q.4 निम्नलिखित में से किस खिलाड़ी ने भारत के लिए क्रिकेट टेस्ट मैच में पहला शतक बनाया था?

Ans 1. पंकज राय

2. सी के नायडू

3. विनू मांकड़

4. लाला अमरनाथ

Question ID : 264330116299

Status : Answered

Chosen Option : 2

Q.5 काम के अधिकार को लागू करने के लिए भारत की केंद्र सरकार द्वारा महात्मा गांधी राष्ट्रीय ग्रामीण रोजगार गारंटी अधिनियम किस वर्ष में अधिनियमित किया गया था?

Ans 1. 2007

2. 2005

3. 2006

4. 2009

Question ID : 264330116080

Status : Answered

Chosen Option : 2

Q.6 भारत सरकार ने वर्ष _____ में एक अधिनियम पारित करके, तत्कालीन जम्मू और कश्मीर राज्य की विशेष संवैधानिक स्थिति को रद्द कर दिया।

Ans 1. 2018

2. 2014

3. 2021

4. 2019

Question ID : 264330116228

Status : Answered

Chosen Option : 4

Q.7 सितंबर 2022 में, मेडागास्कर गणराज्य में भारत के राजदूत के रूप में किसे नामित किया गया?

- Ans
- 1. अभय कुमार
 - 2. नवीन श्रीवास्तव
 - 3. बंडारू विल्सनबाबू
 - 4. मनप्रीत वोहरा

Question ID : 264330115003

Status : Not Answered

Chosen Option : --

Q.8 सफ़ेद सिल्वर क्लोराइड सूर्य के प्रकाश में क्यों हो जाता है?

- Ans
- 1. ऑक्सीजन की उपस्थिति में सिल्वर में जंग लगने के कारण
 - 2. रेडॉक्स अभिक्रिया के कारण
 - 3. सिल्वर क्लोराइड का प्रकाश द्वारा सिल्वर और क्लोरीन में अपघटन के कारण
 - 4. सिल्वर क्लोराइड के सिल्वर ऑक्साइड में विस्थापन के कारण

Question ID : 26433087845

Status : Answered

Chosen Option : 4

Q.9 नवंबर 2022 तक की स्थिति के अनुसार, भारत में केंद्रीय संचार और इलेक्ट्रॉनिक्स एवं सूचना प्रौद्योगिकी मंत्री कौन हैं?

- Ans
- 1. किरण रिजिजू
 - 2. नारायण राणे
 - 3. अनुराग ठाकुर
 - 4. अश्विनी वैष्णव

Question ID : 264330114940

Status : Answered

Chosen Option : 1

Q.10 भारत में हरित क्रान्ति में उच्च उपज देने वाली किस्मों के बीजों के प्रयोग की मुख्य आवश्यकता क्या थी?

- Ans
- 1. फसल उगाने की पुरानी पद्धति का उपयोग
 - 2. पानी की अनियमित आपूर्ति का उपयोग
 - 3. स्थानीय बीजों का उपयोग
 - 4. उर्वरक और कीटनाशक का उपयोग

Question ID : 26433054625

Status : Answered

Chosen Option : 3

Q.11 बी. आर. अम्बेडकर द्वारा दमित वर्ग संघ की स्थापना किस वर्ष की गई थी?

- Ans
- 1. 1932
 - 2. 1926
 - 3. 1928
 - 4. 1930

Question ID : 264330115695

Status : Not Answered

Chosen Option : --

Q.12 चोल अभिलेखों के अनुसार विद्यालयों के रख-रखाव के लिए भूमि को क्या कहा जाता था?

- Ans
- 1. देवदान
 - 2. शालाभोग
 - 3. ब्रह्मदेय
 - 4. वेल्लनवगाई

Question ID : 264330115458

Status : Answered

Chosen Option : 2

Q.13 कोशिकीय ऊर्जा हस्तांतरण प्रणालियों का प्रमुख घटक क्या है?

- Ans
- 1. फास्फोरस
 - 2. मेथेन
 - 3. कार्बन
 - 4. ऑक्सीजन

Question ID : 264330115258

Status : Answered

Chosen Option : 4

Q.14 मक्का और धान की फसलों की कटाई के दौरान किया जाने वाला हुरका बाउल (Hurka Baul) नृत्य मुख्यतः एक कथात्मक नृत्य रूप है। यह निम्नलिखित में से किस राज्य से संबंधित है?

- Ans
- 1. पश्चिम बंगाल
 - 2. ओडिशा
 - 3. पंजाब
 - 4. उत्तराखंड

Question ID : 264330115065

Status : Not Answered

Chosen Option : --

Q.15 राज्य की राजधानी को विभिन्न जिला मुख्यालयों से जोड़ने वाली सड़कों को _____ के रूप में जाना जाता है। इन सड़कों का निर्माण और रख-रखाव राज्य लोक निर्माण विभाग (PWD) द्वारा राज्य और केंद्र शासित प्रदेशों में किया जाता है।

- Ans
- 1. जिला मार्ग
 - 2. सीमांत सड़कें
 - 3. राज्य राजमार्ग
 - 4. राष्ट्रीय राजमार्ग

Question ID : 264330115547

Status : Answered

Chosen Option : 3

Q.16 साजिबू चेराओबा भारतीय राज्य _____ में सनमाहिज्म (Sanamahism) धर्म का पालन करने वाले लोगों का चंद्र नव वर्ष उत्सव है।

- Ans
- 1. मणिपुर
 - 2. अरुणाचल प्रदेश
 - 3. सिक्किम
 - 4. असम

Question ID : 264330115116

Status : Answered

Chosen Option : 3

Q.17 आईओसी (IOC) के अंतर्गत पहला आधुनिक ओलंपिक खेल कहाँ आयोजित हुआ था?

- Ans
- 1. सिडनी में
 - 2. ब्रिस्बेन में
 - 3. एर्थेस में
 - 4. टोक्यो में

Question ID : 26433071559

Status : Answered

Chosen Option : 3

Q.18 NABARD का पूर्ण रूप क्या है?

- Ans
- 1. National Bank for Agriculture and River Development (नेशनल बैंक फॉर एग्रीकल्चर एंड रिवर डेवलपमेंट)
 - 2. National Bank for Architecture and Rural Development (नेशनल बैंक फॉर आर्किटेक्चर एंड रूरल डेवलपमेंट)
 - 3. National Bank for Agriculture and Rural Development (नेशनल बैंक फॉर एग्रीकल्चर एंड रूरल डेवलपमेंट)
 - 4. National Body for Agriculture and Rural Development (नेशनल बॉडी फॉर एग्रीकल्चर एंड रूरल डेवलपमेंट)

Question ID : 264330115300

Status : Answered

Chosen Option : 3

Q.19 निम्नलिखित में से किसे कथक के लिए संगीत नाटक अकादमी पुरस्कार से सम्मानित किया गया है?

- Ans
- 1. टंकेश्वर हजारिका बोरबयान
 - 2. सरोदी सैकिया
 - 3. सुनयना हजारीलाल
 - 4. जोगेन दत्ता ब्यान

Question ID : 264330115882

Status : Answered

Chosen Option : 1

Q.20 भारतीय संविधान में मूल अधिकारों का सिद्धांत निम्नलिखित में से किस देश से लिया गया है?

- Ans
- 1. दक्षिण अफ्रीका
 - 2. यूनाइटेड किंगडम
 - 3. संयुक्त राज्य अमेरिका
 - 4. कनाडा

Question ID : 26433091447

Status : Answered

Chosen Option : 3

Section : Part-C-Elementary Mathematics

Q.1 एक खेप माल का तीन चौथाई भाग 6% लाभ पर और शेष माल 3% की हानि पर बेचा गया। यदि कुल लाभ Rs.600 है, तो उस खेप माल का क्रय मूल्य (Rs. में) _____ है।

- Ans
- 1. Rs.22,000
 - 2. Rs.14,000
 - 3. Rs.18,000
 - 4. Rs.16,000

Question ID : 26433073006

Status : Answered

Chosen Option : 4

Q.2 प्रीति 36 दिनों में एक कार्य कर सकती है। अनु उसी कार्य को 30 दिनों में कर सकती है। यदि प्रीति और अनु एक साथ कार्य शुरू करती हैं लेकिन अनु काम पूरा होने से 3 दिन पहले काम छोड़ देती है, तो दिनों की संख्या ज्ञात करें जिसमें कुल कार्य पूरा हुआ।

- Ans
- 1. 18 दिन
 - 2. 16 दिन
 - 3. 14 दिन
 - 4. 11 दिन

Question ID : 264330116912

Status : Answered

Chosen Option : 1

Q.3 6 के वर्ग, 4 के घन और 24 का लघुत्तम समापवर्त्य ज्ञात करें।

Ans 1. 576

2. 1152

3. 288

4. 144

Question ID : 264330116657

Status : Answered

Chosen Option : 1

Q.4 15%, 20% और 24% की क्रमिक छूटों के लिए समतुल्य एकल छूट कितनी होगी?

Ans 1. 48.32%

2. 41.35%

3. 44.25%

4. 46.56%

Question ID : 26433066308

Status : Answered

Chosen Option : 1

Q.5 यदि A और B के तृतीयानुपाती तथा A, B और C के चतुर्थानुपाती का अनुपात 3 : 4 है, तो B : C का अनुपात _____ है।

Ans 1. 4 : 5

2. 3 : 4

3. 5 : 4

4. 4 : 3

Question ID : 26433080117

Status : Answered

Chosen Option : 2

Q.6 एक वाहन द्वारा एक निश्चित दूरी को एक निश्चित चाल से तय किया जाता है। यदि उस दूरी के आधे भाग को किसी दूसरे वाहन द्वारा दोगुने समय में तय किया गया है, तो दोनों वाहनों की चालों का अनुपात _____ है।

Ans 1. 4 : 1

2. 2 : 1

3. 6 : 1

4. 3 : 1

Question ID : 26433063949

Status : Answered

Chosen Option : 2

Q.7 एक कारखाने में लगातार 5 महीने में 7482, 8952, 6524, 8432 और 6562 इकाइयों का उत्पादन होता है। छठे महीने में कितनी इकाइयों का उत्पादन किया जाना चाहिए, ताकि 6 महीने का औसत उत्पादन 7200 हो जाए?

- Ans
- 1. 5420
 - 2. 5248
 - 3. 4912
 - 4. 5812

Question ID : 26433079995
Status : Answered
Chosen Option : 2

Q.8 एक अर्धगोले की त्रिज्या 42 cm है। इसके वक्र पृष्ठीय क्षेत्रफल का आधा ज्ञात कीजिए ($\pi = \frac{22}{7}$)।

- Ans
- 1. 4554 cm²
 - 2. 5544 cm²
 - 3. 3663 cm²
 - 4. 2772 cm²

Question ID : 26433075748
Status : Answered
Chosen Option : 2

Q.9 एक संख्या में 10% की वृद्धि की जाती है और बढ़ी हुई संख्या में 20% की कमी की जाती है। मूल संख्या में हुए परिवर्तन का शुद्ध प्रतिशत ज्ञात करें।

- Ans
- 1. 8% वृद्धि
 - 2. 12% वृद्धि
 - 3. 8% कमी
 - 4. 12% कमी

Question ID : 26433075098
Status : Answered
Chosen Option : 4

Q.10 एक निश्चित अवधि के लिए ₹2,300 की राशि पर 10% वार्षिक की दर से वार्षिक रूप से चक्रवृद्धि किया जाने वाला चक्रवृद्धि ब्याज ₹483 है। वर्षों में अवधि ज्ञात करें।

- Ans
- 1. 2 वर्ष 6 महीने
 - 2. 1 वर्ष 9 महीने
 - 3. 2 वर्ष
 - 4. 3 वर्ष

Question ID : 26433076228
Status : Answered
Chosen Option : 3

Q.11 यदि $k + 3$, $k + 2$, $3k - 7$, $2k - 3$ दिए गए क्रम में समानुपात में हों, तो चौथे समानुपाती का न्यूनतम मान क्या होगा?

- Ans
- 1. 7
 - 2. -5
 - 3. 5
 - 4. -7

Question ID : 26433090255

Status : Not Answered

Chosen Option : --

Q.12 एक डीलर उस वस्तु पर 25% की अतिरिक्त रियायत देता है, जिस पर पहले से ही अंकित मूल्य पर 20% की छूट है। यदि कोई क्रेता वस्तु के लिए ₹1,500 का भुगतान करता है, तो अंकित मूल्य ज्ञात कीजिए।

- Ans
- 1. ₹2,000
 - 2. ₹1,875
 - 3. ₹2,225
 - 4. ₹2,500

Question ID : 26433090324

Status : Answered

Chosen Option : 4

Q.13 एक वस्तु के मूल्य में 30% की वृद्धि की जाती है और फिर 30% की कमी की जाती है। वस्तु के अंतिम मूल्य में शुद्ध प्रतिशत परिवर्तन ज्ञात कीजिए।

- Ans
- 1. 12% की कमी
 - 2. 9% की कमी
 - 3. 12% की वृद्धि
 - 4. 9% की वृद्धि

Question ID : 26433079769

Status : Answered

Chosen Option : 2

Q.14 वह सबसे बड़ी संख्या क्या है जिससे क्रमशः 73 और 98 को विभाजित करने पर 4 और 6 शेष बचता है?

- Ans
- 1. 23
 - 2. 13
 - 3. 1
 - 4. 46

Question ID : 26433075044

Status : Answered

Chosen Option : 1

Q.15 नीबू Rs.2 में 3 की दर से खरीदे जाते हैं और Rs.3 में 2 की दर से बेचे जाते हैं। लाभ प्रतिशत ज्ञात कीजिए।

- Ans
- 1. 115%
 - 2. 128%
 - 3. 120%
 - 4. 125%

Question ID : 26433075148

Status : Answered

Chosen Option : 4

Q.16 एक तेज़ ट्रेन 192 किमी की यात्रा के लिए, धीमी ट्रेन से 2 घंटे कम समय लेती है। यदि धीमी ट्रेन की चाल, तेज ट्रेन की चाल से 16 किमी/घंटा कम है, तो क्रमशः धीमी और तेज ट्रेनों की चाल ज्ञात करें।

- Ans
- 1. 48 किमी/घंटा, 64 किमी/घंटा
 - 2. 32 किमी/घंटा, 48 किमी/घंटा
 - 3. 28 किमी/घंटा, 34 किमी/घंटा
 - 4. 30 किमी/घंटा, 40 किमी/घंटा

Question ID : 26433075394

Status : Answered

Chosen Option : 1

Q.17 एक कस्बे की जनसंख्या में सालाना 20% की वृद्धि होती है। यदि 4 वर्ष पहले जनसंख्या 62,500 थी, तो वर्तमान जनसंख्या कितनी है?

- Ans
- 1. 1,29,900
 - 2. 1,29,800
 - 3. 1,29,600
 - 4. 1,29,700

Question ID : 26433082981

Status : Answered

Chosen Option : 3

Q.18 5 पुरुष एक काम को 2 दिनों में पूरा कर सकते हैं, 4 महिलाएं उसे 3 दिनों में कर सकती हैं और 5 बच्चे उसे 3 दिनों में पूरा कर सकते हैं। 1 पुरुष, 1 महिला और 1 बच्चा तीनों मिलकर उसी काम को कितने दिनों में पूरा करेंगे?

- Ans
- 1. 6 दिन
 - 2. 4 दिन
 - 3. 8 दिन
 - 4. 10 दिन

Question ID : 26433076048

Status : Not Answered

Chosen Option : --

Q.19 7 cm त्रिज्या और 25 cm तिर्यक ऊंचाई वाले एक शंकु के आयतन की गणना करें। $\pi = \frac{22}{7}$ लें

- Ans
- 1. 1,223 cm³
 - 2. 1,322 cm³
 - 3. 1,323 cm³
 - 4. 1,232 cm³

Question ID : 26433076252
Status : Answered
Chosen Option : 4

Q.20 13 घंटे की यात्रा के लिए कार की औसत चाल (किमी/घंटा में) क्या होगी, यदि यह पहले 3 घंटे के लिए 50 किमी/घंटा, अगले 4 घंटे के लिए 60 किमी/घंटा और अंतिम 6 घंटे के लिए 65 किमी/घंटा से चलती है?

- Ans
- 1. 65
 - 2. 65.5
 - 3. 62.5
 - 4. 60

Question ID : 26433075906
Status : Answered
Chosen Option : 4

Section : Part-D-English

Q.1 Parts of the following sentence have been given as options. Select the option that contains an error.

The instructions on the bottle say – open the packet and poured the contents into hot water.

- Ans
- 1. say – open the packet and
 - 2. The instructions on the bottle
 - 3. into hot water
 - 4. poured the contents

Question ID : 26433088470
Status : Not Answered
Chosen Option : --

Q.2 Select the most appropriate ANTONYM of the word given in the brackets to fill in the blank.

Don't try to walk _____ (after) you can crawl.

- Ans
- 1. already
 - 2. before
 - 3. later
 - 4. soon

Question ID : 2643308852
Status : Not Answered
Chosen Option : --

Q.3 Select the most appropriate option that can substitute the underlined segment in the given sentence. If there is no need to substitute it, select 'No substitution required'.

Rosie became an expert in the field of painting by her.

- Ans
- 1. No substitution required
 - 2. paint by himself
 - 3. painted by herself
 - 4. painting by herself

Question ID : 26433088561
Status : Not Answered
Chosen Option : --

Q.4 Select the most appropriate synonym of the given word.

Cheerless

- Ans
- 1. Bright
 - 2. Clear
 - 3. Strong
 - 4. Gloomy

Question ID : 26433074043
Status : Not Answered
Chosen Option : --

Q.5 Select the INCORRECTLY spelt word.

- Ans
- 1. Demolish
 - 2. Discersive
 - 3. Discard
 - 4. Jeopardy

Question ID : 26433073654
Status : Not Answered
Chosen Option : --

Q.6 Select the most appropriate meaning of the given idiom.

At the drop of a hat

- Ans 1. Do something immediately without hesitation
 2. Extremely pleased about something
 3. Force someone to behave in a disciplined manner
 4. Refuse to do something

Question ID : 26433072685
Status : Not Answered
Chosen Option : --

Q.7 Select the most appropriate meaning of the highlighted idiom in the given sentence.

The marriage of my elder brother has been on the cards for some time now.

- Ans 1. Probable
 2. Stuck
 3. Improbable
 4. Certain

Question ID : 264330108897
Status : Not Answered
Chosen Option : --

Q.8 Select the most appropriate synonym of the underlined word in the given sentence.

In his moment of despair, I am with him.

- Ans 1. contentment
 2. misery
 3. beliefs
 4. hope

Question ID : 26433092105
Status : Not Answered
Chosen Option : --

Q.9 The sentence given below has one misspelt word. Spot the INCORRECTLY spelt word and select its correct spelling.

A unanimos consent of all the shareholders was required to approve the merger.

- Ans 1. Anenimous
 2. Unanemous
 3. Unanimous
 4. Ananimous

Question ID : 26433073561
Status : Not Answered
Chosen Option : --

Q.10 Select the most appropriate option to fill in the blanks in the given sentence.

I _____ the gift of my aunt and she _____ money from my father.

- Ans
- 1. accepted; expected
 - 2. excepted; expected
 - 3. accepted; excepted
 - 4. excepted; accepted

Question ID : 26433084773
Status : Not Answered
Chosen Option : --

Q.11 Select the most appropriate option that can substitute the underlined segment in the given sentence. If there is no need to substitute it, select 'No substitution'.

You should take your car in for a service because it has starting to make weird noises.

- Ans
- 1. No substitution
 - 2. because it's starting to make weird noises
 - 3. because it had starting to make weird noises
 - 4. because it has start to make weird noises

Question ID : 264330101021
Status : Not Answered
Chosen Option : --

Q.12 Select the most appropriate synonym of the word 'liberate' from the following sentence.

There is a famous saying by Rousseau which says that man is born free but he is surrounded by the clutches of slavery in society.

- Ans
- 1. Surrounded
 - 2. Slavery
 - 3. Clutches
 - 4. Free

Question ID : 26433072264
Status : Not Answered
Chosen Option : --

Q.13 Select the most appropriate option to fill in the blank.

There is only one thing that _____ with us that cannot be taken away: to act with courage and dignity and to stick to the ideals that have given meaning to life.

- Ans
- 1. remains
 - 2. have remained
 - 3. remaining
 - 4. remained

Question ID : 26433092114
Status : Not Answered
Chosen Option : --

Q.14 Select the word that is OPPOSITE in meaning to the given word.

Benevolent

- Ans 1. Unsparing
 2. Malevolent
 3. Benign
 4. Magnanimous

Question ID : 26433074427
Status : Not Answered
Chosen Option : --

Q.15 Select the most appropriate ANTONYM of the given word.

Courtesy

- Ans 1. Decline
 2. Generosity
 3. Crudeness
 4. Modulate

Question ID : 26433090792
Status : Not Answered
Chosen Option : --

Comprehension:

In the following passage, some words have been deleted. Read the passage carefully and select the most appropriate option to fill in each blank.

The effect (1)_____ on the mind by travelling depends entirely on the mind of the traveller and on the way in which he conducts himself. The chief idea of one very common type of traveller is to see as many objects of (2)_____ as he possibly can. If he can only after his return home say that he has seen such and such a temple, castle, picture gallery, or museum, he is perfectly (3)_____. Therefore, when he arrives at a famous city, he (4)_____ it, so that he may get over as quickly as possible the task of seeing its principal sights, entered them by name in his notebook as visited or, in his own phraseology 'done', then hurry on to another city which he treats in the same (5)_____ way.

SubQuestion No : 16

Q.16 Select the most appropriate option to fill in blank number 1.

- Ans 1. appeared
 2. produced
 3. created
 4. ingrained

Question ID : 26433089094
Status : Not Answered
Chosen Option : --

Comprehension:

In the following passage, some words have been deleted. Read the passage carefully and select the most appropriate option to fill in each blank.

The effect (1)_____ on the mind by travelling depends entirely on the mind of the traveller and on the way in which he conducts himself. The chief idea of one very common type of traveller is to see as many objects of (2)_____ as he possibly can. If he can only after his return home say that he has seen such and such a temple, castle, picture gallery, or museum, he is perfectly (3)_____. Therefore, when he arrives at a famous city, he (4)_____ it, so that he may get over as quickly as possible the task of seeing its principal sights, entered them by name in his notebook as visited or, in his own phraseology 'done', then hurry on to another city which he treats in the same (5)_____ way.

SubQuestion No : 17

Q.17 Select the most appropriate option to fill in blank number 2.

- Ans 1. variety
 2. desire
 3. rarity
 4. interest

Question ID : 26433089095

Status : Not Answered

Chosen Option : --

Comprehension:

In the following passage, some words have been deleted. Read the passage carefully and select the most appropriate option to fill in each blank.

The effect (1)_____ on the mind by travelling depends entirely on the mind of the traveller and on the way in which he conducts himself. The chief idea of one very common type of traveller is to see as many objects of (2)_____ as he possibly can. If he can only after his return home say that he has seen such and such a temple, castle, picture gallery, or museum, he is perfectly (3)_____. Therefore, when he arrives at a famous city, he (4)_____ it, so that he may get over as quickly as possible the task of seeing its principal sights, entered them by name in his notebook as visited or, in his own phraseology 'done', then hurry on to another city which he treats in the same (5)_____ way.

SubQuestion No : 18

Q.18 Select the most appropriate option to fill in blank number 3.

- Ans 1. happy
 2. enjoyed
 3. satisfied
 4. amused

Question ID : 26433089096

Status : Not Answered

Chosen Option : --

Comprehension:

In the following passage, some words have been deleted. Read the passage carefully and select the most appropriate option to fill in each blank.

The effect (1)_____ on the mind by travelling depends entirely on the mind of the traveller and on the way in which he conducts himself. The chief idea of one very common type of traveller is to see as many objects of (2)_____ as he possibly can. If he can only after his return home say that he has seen such and such a temple, castle, picture gallery, or museum, he is perfectly (3)_____. Therefore, when he arrives at a famous city, he (4)_____ it, so that he may get over as quickly as possible the task of seeing its principal sights, entered them by name in his notebook as visited or, in his own phraseology 'done', then hurry on to another city which he treats in the same (5)_____ way.

SubQuestion No : 19

Q.19 Select the most appropriate option to fill in blank number 4.

- Ans
- 1. comes across
 - 2. browses through
 - 3. visits
 - 4. rushes through

Question ID : 26433089097

Status : Not Answered

Chosen Option : --

Comprehension:

In the following passage, some words have been deleted. Read the passage carefully and select the most appropriate option to fill in each blank.

The effect (1)_____ on the mind by travelling depends entirely on the mind of the traveller and on the way in which he conducts himself. The chief idea of one very common type of traveller is to see as many objects of (2)_____ as he possibly can. If he can only after his return home say that he has seen such and such a temple, castle, picture gallery, or museum, he is perfectly (3)_____. Therefore, when he arrives at a famous city, he (4)_____ it, so that he may get over as quickly as possible the task of seeing its principal sights, entered them by name in his notebook as visited or, in his own phraseology 'done', then hurry on to another city which he treats in the same (5)_____ way.

SubQuestion No : 20

Q.20 Select the most appropriate option to fill in blank number 5.

- Ans
- 1. lack lustre
 - 2. nonchalant
 - 3. unceremonious
 - 4. disinterest

Question ID : 26433089098

Status : Not Answered

Chosen Option : --

Q.1 निम्न में से किस शब्द में वर्तनी की अशुद्धि है?

- Ans
- 1. सोडषी
 - 2. व्यावहारिक
 - 3. दृष्टि
 - 4. आकृष्ट

Question ID : 26433067110

Status : Answered

Chosen Option : 2

Q.2 'जिस पर किसी का नियंत्रण न हो' इस वाक्यांश के लिए सार्थक शब्द है -

- Ans
- 1. निःस्पृह
 - 2. निरंकुश
 - 3. निरामिष
 - 4. नियंत्रित

Question ID : 26433062338

Status : Answered

Chosen Option : 3

Q.3 वाक्य में रेखांकित शब्द को दिए गए शब्दों में से उचित शब्द से बदलें।
विषयों में अनुराग होने से सर्वनाश होता है।

- Ans
- 1. प्रेम
 - 2. मैत्री
 - 3. आसक्ति
 - 4. स्नेह

Question ID : 26433062876

Status : Answered

Chosen Option : 3

Q.4 जो देने योग्य हो।

दिए गए वाक्यांश के लिए एक शब्द होगा-

- Ans
- 1. निर्दय
 - 2. देय
 - 3. अदेय
 - 4. प्रदाता

Question ID : 26433070055

Status : Answered

Chosen Option : 2

Q.5 'घर बसाना' मुहावरे का उचित अर्थ है-

- Ans
- 1. घर के अंदर जाना
 - 2. विवाह करना
 - 3. नया घर बनाना
 - 4. घर में ही रहना

Question ID : 26433065882

Status : Answered

Chosen Option : 2

Q.6 रेखांकित अंश के स्थान पर सबसे उपयुक्त विकल्प दिए गए विकल्पों में से कौन-सा है?

तलवार एक उपयोगी अस्त्र है।

- Ans
- 1. शस्त्र
 - 2. निरस्त्र
 - 3. वस्त्र
 - 4. द्रव्य

Question ID : 26433066874

Status : Answered

Chosen Option : 1

Q.7 नुक्ता बीनी करना। रेखांकित शब्द के स्थान पर मुहावरा होगा-

- Ans
- 1. ऋणी
 - 2. चीनी
 - 3. पीनी
 - 4. मिनी

Question ID : 26433062818

Status : Answered

Chosen Option : 1

Q.8 'जातीय' शब्द का विलोम क्या होगा?

- Ans
- 1. प्रजातीय
 - 2. अनजातीय
 - 3. विजातीय
 - 4. कुजातीय

Question ID : 26433067094

Status : Answered

Chosen Option : 3

Q.9 दिए गए वाक्य के रेखांकित शब्द को उचित विकल्प से परिवर्तित करें।

अभी तक हिंदी के अनेक शब्दों की वर्तनी व्यवस्थित नहीं है।

- Ans
- 1. शाश्वत
 - 2. स्थित
 - 3. स्थिर
 - 4. सुगठित

Question ID : 26433069916

Status : Answered

Chosen Option : 4

Q.10 निम्नलिखित में से कौन-सी, अकर्मक क्रिया नहीं है?

- Ans
- 1. उगना
 - 2. उड़ना
 - 3. खाता
 - 4. जागना

Question ID : 26433085038

Status : Answered

Chosen Option : 3

Q.11 निम्नलिखित विकल्पों में से कौन-से वाक्य में संख्यावाचक विशेषण का उचित प्रयोग नहीं किया गया है?

- Ans
- 1. शुभम का दिमाग दस गुना तेज चलता है।
 - 2. पाँचवें दिन तक पानी का बरसना जारी रहा।
 - 3. वहीदा बड़ी शैतान लड़की है।
 - 4. भारत का हर दूसरा आदमी बुद्धिमान है।

Question ID : 26433062969

Status : Answered

Chosen Option : 3

Q.12 निम्न समानार्थी शब्दों में से उचित शब्द का प्रयोग करके दिए गए वाक्य के रिक्त स्थान की पूर्ति करें।
कैदियों ने अपनी माँगें पूरी न होने पर जेल में _____ करने की धमकी दी है।

- Ans
- 1. फाका
 - 2. व्रत
 - 3. अनशन
 - 4. उपवास

Question ID : 26433062933

Status : Answered

Chosen Option : 3

Q.13 निम्नलिखित में से शुद्ध वाक्य है-

- Ans
- 1. गोपियां कृष्ण की राह में आंखें बिछाए बैठी थीं।
 - 2. गोपियों किसन की राह में आंखें बिछाए बैठी थीं।
 - 3. गोपियां कृष्ण की राह में आंखें बिठाकर बैठी थीं।
 - 4. गोपियां कृष्ण की राह में आंखें बिछाए बैठी थीं।

Question ID : 26433066846

Status : Answered

Chosen Option : 4

Q.14 सिंह को देखकर मोनू के होश उड़ गए।

रेखांकित शब्द के उचित पर्यायवाची शब्द का चयन कीजिए।

- Ans
- 1. व्याघ्र
 - 2. वासव
 - 3. धनद
 - 4. दैत्य

Question ID : 26433079726

Status : Answered

Chosen Option : 1

Q.15 'असुर' का पर्यायवाची शब्द है-

- Ans
- 1. मनुज
 - 2. अनुज
 - 3. दनुज
 - 4. कृशानु

Question ID : 26433062913

Status : Answered

Chosen Option : 1

Comprehension:

निम्नलिखित गद्यांश में से कुछ शब्द हटा दिए गए हैं। दिए गए विकल्पों की सहायता से रिक्त स्थानों की पूर्ति कीजिए। प्रत्येक संख्या के लिए उपयुक्त विकल्प का चयन कीजिए।

मेरा विचार है 1. _____ एक ही खुराक 2. _____ के बाद तबीयत ठीक 3. _____ जाएगी। कभी-कभी हवा रुक 4. _____ है और फंदा डाल लेती है। बस 5. _____ की ऐंठन है।

SubQuestion No : 16

Q.16 रिक्त स्थान 1 की पूर्ति के लिए सर्वाधिक उपयुक्त विकल्प का चयन कीजिए।

- Ans
- 1. की
 - 2. के
 - 3. कि
 - 4. का

Question ID : 26433069756

Status : Answered

Chosen Option : 3

Comprehension:

निम्नलिखित गद्यांश में से कुछ शब्द हटा दिए गए हैं। दिए गए विकल्पों की सहायता से रिक्त स्थानों की पूर्ति कीजिए। प्रत्येक संख्या के लिए उपयुक्त विकल्प का चयन कीजिए।

मेरा विचार है 1. _____ एक ही खुराक 2. _____ के बाद तबीयत ठीक 3. _____ जाएगी। कभी-कभी हवा रुक 4. _____ है और फंदा डाल लेती है। बस 5. _____ की ऐंठन है।

SubQuestion No : 17

Q.17 रिक्त स्थान 2 की पूर्ति के लिए सर्वाधिक उपयुक्त विकल्प का चयन कीजिए।

- Ans
- 1. पीया
 - 2. पीना
 - 3. पीने
 - 4. पीनी

Question ID : 26433069757

Status : Answered

Chosen Option : 3

Comprehension:

निम्नलिखित गद्यांश में से कुछ शब्द हटा दिए गए हैं। दिए गए विकल्पों की सहायता से रिक्त स्थानों की पूर्ति कीजिए। प्रत्येक संख्या के लिए उपयुक्त विकल्प का चयन कीजिए।

मेरा विचार है 1. _____ एक ही खुराक 2. _____ के बाद तबीयत ठीक 3. _____ जाएगी। कभी-कभी हवा रुक 4. _____ है और फंदा डाल लेती है। बस 5. _____ की ऐंठन है।

SubQuestion No : 18

Q.18 रिक्त स्थान 3 की पूर्ति के लिए सर्वाधिक उपयुक्त विकल्प का चयन कीजिए।

- Ans
- 1. होनी
 - 2. हो
 - 3. ही
 - 4. होगी

Question ID : 26433069758

Status : Answered

Chosen Option : 2

Comprehension:

निम्नलिखित गद्यांश में से कुछ शब्द हटा दिए गए हैं। दिए गए विकल्पों की सहायता से रिक्त स्थानों की पूर्ति कीजिए। प्रत्येक संख्या के लिए उपयुक्त विकल्प का चयन कीजिए।

मेरा विचार है 1. _____ एक ही खुराक 2. _____ के बाद तबीयत ठीक 3. _____ जाएगी। कभी-कभी हवा रुक 4. _____ है और फंदा डाल लेती है। बस 5. _____ की ऐंठन है।

SubQuestion No : 19

Q.19 रिक्त स्थान 4 की पूर्ति के लिए सर्वाधिक उपयुक्त विकल्प का चयन कीजिए।

- Ans
- 1. जाता
 - 2. जाते
 - 3. जाती
 - 4. जानी

Question ID : 26433069759

Status : Answered

Chosen Option : 3

Comprehension:

निम्नलिखित गद्यांश में से कुछ शब्द हटा दिए गए हैं। दिए गए विकल्पों की सहायता से रिक्त स्थानों की पूर्ति कीजिए। प्रत्येक संख्या के लिए उपयुक्त विकल्प का चयन कीजिए।

मेरा विचार है 1. _____ एक ही खुराक 2. _____ के बाद तबीयत ठीक 3. _____ जाएगी। कभी-कभी हवा रुक 4. _____ है और फंदा डाल लेती है। बस 5. _____ की ऐंठन है।

SubQuestion No : 20

Q.20 रिक्त स्थान 5 की पूर्ति के लिए सर्वाधिक उपयुक्त विकल्प का चयन कीजिए।

- Ans**
- 1. उसी
 - 2. उनके
 - 3. उसकी
 - 4. उसके

Question ID : 26433069760

Status : Answered

Chosen Option : 1

KD Job Updates

Constable GD in CAPFs SSF Rifleman GD in Assam Rifles and Sepoy in NCB Examination 2022

Roll Number	KD Job Updates
Candidate Name	KD Job Updates
Venue Name	Shri Bhawani Niketan Institute of Technology and Management
Exam Date	06/02/2023
Exam Time	9:00 AM - 10:00 AM
Subject	Constable GD Examination 2022

Section : Part-A-General Intelligence and Reasoning

Q.1 'A + B' का अर्थ है कि 'A, B का पिता है'
'A - B' का अर्थ है कि 'A, B की पत्नी है'
'A × B' का अर्थ है कि 'A, B का भाई है'
'A ÷ B' का अर्थ है कि 'A, B की पुत्री है'
निम्नलिखित में से किस व्यंजक के अनुसार 'S, P की पत्नी है'?

- Ans
- 1. $S \times Q + R \times P$
 - 2. $P + Q \times R + S$
 - 3. $S + Q \times R + P$
 - 4. $S \times Q + R + P$

Question ID : 26433082760
Status : Answered
Chosen Option : 2

Q.2 एक निश्चित कूट भाषा में 'FIRST' को 79191921 और 'TIME' को 219145 के रूप में कूटबद्ध किया जाता है। उसी भाषा में 'BETTER' को किस प्रकार कूटबद्ध किया जाएगा?

- Ans
- 1. 352120618
 - 2. 252020518
 - 3. 262021519
 - 4. 362121619

Question ID : 26433074512
Status : Answered
Chosen Option : 4

Q.3 दिए गए विकल्पों में से उस अक्षर-समूह का चयन कीजिए जो निम्न श्रृंखला में प्रश्न-चिह्न (?) के स्थान पर आ सकता है।
KILT, OMPX, SQTB, WUXF, ?

- Ans
- 1. AYBJ
 - 2. AYBK
 - 3. AZBK
 - 4. AZBJ

Question ID : 26433079031
Status : Answered
Chosen Option : 1

Q.4 एक निश्चित कूट भाषा में, 'HEALTH' को 'CGJJVN' के रूप में लिखा जाता है और 'CHARGE' को 'CJEGIT' के रूप में लिखा जाता है। उसी भाषा में 'HOURSE' को किस प्रकार लिखा जाएगा?

- Ans 1. WQJGUT
 2. GNSSTF
 3. TNGDRQ
 4. VPIFTS

Question ID : 26433069640
Status : Answered
Chosen Option : 1

Q.5 निम्न श्रंखला में प्रश्न-चिह्न (?) के स्थान पर कौन सी संख्या आएगी?
18, 20, ?, 128, 514, 2572

- Ans 1. 42
 2. 40
 3. 22
 4. 80

Question ID : 26433068968
Status : Not Answered
Chosen Option : --

Q.6 दिए गए कथनों और निष्कर्षों को ध्यानपूर्वक पढ़ें। यह मानते हुए कि कथनों में दी गई जानकारी सत्य है, भले ही वह सामान्य रूप से ज्ञात तथ्यों से भिन्न प्रतीत होती हो, तब कीजिये कि दिए गए निष्कर्षों में से कौन सा/से कथनों का तार्किक रूप से अनुसरण करता है/करते हैं।

कथन:

सभी ऊंट फ्रैक्टल हैं।
कोई भी फ्रैक्टल ट्यूब नहीं है।
सभी पियानो ऊंट हैं।

निष्कर्ष:

- I. कुछ ट्यूब ऊंट हैं।
II. कोई भी पियानो ट्यूब नहीं है।

- Ans 1. केवल निष्कर्ष II अनुसरण करता है।
 2. न तो निष्कर्ष I और न ही II अनुसरण करता है।
 3. या तो निष्कर्ष I या II अनुसरण करता है।
 4. केवल निष्कर्ष I अनुसरण करता है।

Question ID : 26433089548
Status : Answered
Chosen Option : 1

Q.7 उस विकल्प का चयन करें जो तीसरे शब्द से उसी प्रकार संबंधित है जिस प्रकार दूसरा शब्द पहले शब्द से संबंधित है। (शब्दों को अर्थपूर्ण शब्दों के रूप में मानना है, और उन्हें शब्द में अक्षरों/व्यंजनों/स्वरों की संख्या के आधार पर एक-दूसरे से संबंधित नहीं करना है।)
अयस्क: धातु :: दूध : ?

- Ans
- 1. गाय
 - 2. ग्लास
 - 3. कपडा
 - 4. दही

Question ID : 26433082934

Status : Answered

Chosen Option : 4

Q.8 आमिर, बंटी, लेस्ली, प्रदीप, ईशान, फैज, गौरव और हरीश एक वर्गाकार मेज के चारों ओर मेज के केंद्र की ओर मुख करके बैठे हैं। उनमें से कुछ कोनों पर बैठे हैं, जबकि कुछ भुजाओं के ठीक मध्य में बैठे हैं। प्रदीप, गौरव के दाईं ओर तीसरे स्थान पर बैठा है। प्रदीप किसी एक कोने पर बैठा है। बंटी, फैज के दाईं ओर दूसरे स्थान पर बैठा है। फैज किसी भी कोने पर नहीं बैठा है। बंटी, प्रदीप के ठीक बगल में नहीं बैठा है। हरीश, आमिर के ठीक बगल में बैठा है। हरीश किसी भी भुजा के ठीक मध्य में नहीं बैठा है। हरीश और लेस्ली के बीच केवल एक व्यक्ति बैठा है। आमिर के दाईं ओर तीसरे स्थान पर कौन बैठा/बैठी है?

- Ans
- 1. लेस्ली
 - 2. बंटी
 - 3. गौरव
 - 4. ईशान

Question ID : 26433082292

Status : Answered

Chosen Option : 4

Q.9 उस विकल्प का चयन कीजिए जो तीसरे शब्द से उसी प्रकार संबंधित है जिस प्रकार दूसरा शब्द पहले शब्द से संबंधित है। (शब्दों को अर्थपूर्ण शब्दों के रूप में मानना है और उन्हें शब्द में अक्षरों/व्यंजनों/स्वरों की संख्या के आधार पर एक-दूसरे से संबंधित नहीं करना है।)
यहूदी : तौरात :: ईसाई : ?

- Ans
- 1. ओल्ड टेस्टामेंट
 - 2. बाइबिल
 - 3. न्यू टेस्टामेंट
 - 4. चर्च

Question ID : 26433067373

Status : Answered

Chosen Option : 2

Q.10 नीचे दिए गए समीकरण को गणितीय रूप से सही बनाने के लिए किन दो गणितीय चिह्नों को परस्पर बदलना चाहिए?

$$360 \times 8 - 320 + 72 \div 5 = 85$$

Ans 1. + और ÷

2. × और ÷

3. + और ×

4. - और ÷

Question ID : 264330114173

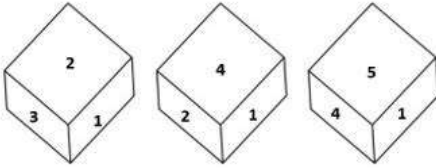
Status : Answered

Chosen Option : 2

Q.11

एक ही पासे की तीन अलग-अलग स्थितियाँ यहाँ दर्शायी गई हैं। '6' दर्शाने वाले

फलक के विपरीत वाले फलक पर आने वाली संख्या ज्ञात कीजिए।



Ans 1. 5

2. 1

3. 3

4. 2

Question ID : 26433082888

Status : Answered

Chosen Option : 2

Q.12 A, B, C, D, E, F और G एक पंक्ति में उत्तर की ओर मुख करके बैठे हैं। G, E के दाईं ओर ठीक बगल में बैठा है। G, पंक्ति के अंतिम दाएं सिरे पर बैठा है। A, E के बाईं ओर तीसरे स्थान पर बैठा है। B, A के दाईं ओर ठीक बगल में बैठा है। C, B के दाईं ओर बैठा है। D, A के बाईं ओर ठीक बगल में बैठा है। पंक्ति के अंतिम बाएं सिरे कौन बैठा है?

Ans 1. G

2. F

3. D

4. A

Question ID : 26433074624

Status : Answered

Chosen Option : 2

Q.13 निम्नलिखित में से कौन-सा अक्षर-समूह नीचे दी गई अक्षर-समूह श्रृंखला में प्रश्न-चिह्न (?) के स्थान पर आकर श्रृंखला को पूर्ण करेगा?
 HSU, JQO, LOI, NME, ?

Ans 1. PKA

2. OKA

3. PLA

4. PKB


Question ID : 26433067275

Status : Answered

Chosen Option : 1


Q.14 उस आकृति का चयन कीजिए जो नीचे दी गई श्रृंखला में प्रश्न चिह्न (?) के

स्थान पर आएगी।




Ans

1.




2.



3.



4.



Question ID : 26433070418

Status : Answered

Chosen Option : 2

Q.15 निम्नलिखित में से कौन-सी संख्या दी गई श्रंखला में प्रश्न-चिह्न (?) के स्थान पर आएगी?
1995, 1895, 1695, 1395, ?

- Ans 1. 1195
 2. 995
 3. 1005
 4. 885

Question ID : 26433085352
Status : Answered
Chosen Option : 2

Q.16 किस विकल्प में निम्नलिखित शब्दों का वह क्रम दिया गया है, जिस क्रम में वे अंग्रेजी शब्दकोश में आते हैं।

- 1 Broken
- 2 Bread
- 3 Bridge
- 4 Bride
- 5 Broom

- Ans 1. 2,4,3,1,5
 2. 4,5,2,1,3
 3. 2,4,5,1,3
 4. 4,2,3,5,1

Question ID : 26433069256
Status : Answered
Chosen Option : 1

Q.17 उस विकल्प का चयन करें, जो पाँचवीं संख्या से उसी प्रकार संबंधित है, जिस प्रकार दूसरी संख्या, पहली संख्या से संबंधित है और चौथी संख्या, तीसरी संख्या से संबंधित है।
12 : 3 :: 28 : 7 :: 32 : ?

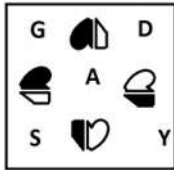
- Ans 1. 12
 2. 8
 3. 11
 4. 6

Question ID : 26433069420
Status : Answered
Chosen Option : 2

Q.18 दर्पण को दाईं ओर रखे जाने पर, निम्नलिखित में से कौन-सी आकृति दी गई प्रश्न आकृति

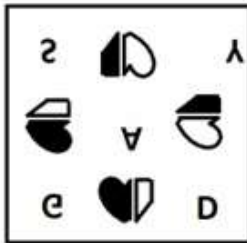
का सटीक दर्पण प्रतिबिम्ब होगी?

प्रश्न आकृति:

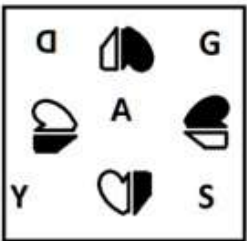


Ans

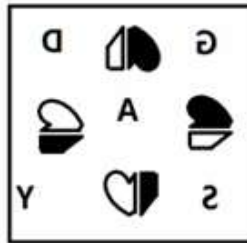
✗ 1.



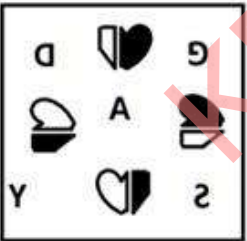
✗ 2.



✓ 3.



✗ 4.

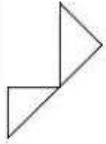


Question ID : 26433087084

Status : Answered

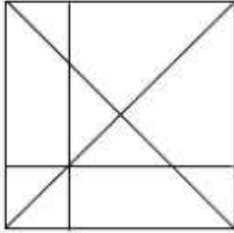
Chosen Option : 3

Q.19 उस विकल्प का चयन कीजिए, जिसमें प्रस्तुत चित्र अंतर्निहित है (घुमाना अनुमन्य नहीं है)

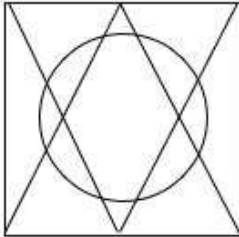


Ans

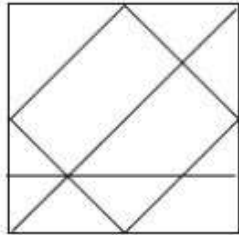
✓ 1.



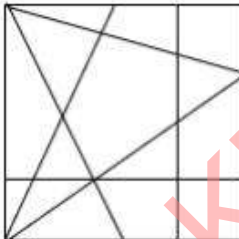
✗ 2.



✗ 3.



✗ 4.



Question ID : 26433076720

Status : Answered

Chosen Option : 1

Q.20 नीचे दिए गए समीकरण को गणितीय रूप से सही बनाने के लिए किन दो चिन्हों को परस्पर बदलना चाहिए?

$$24 \times 108 - 36 \div 6 + 18 = 84$$

- Ans
- 1. - और +
 - 2. + और -
 - 3. + और +
 - 4. + और ×

Question ID : 264330117550

Status : Answered

Chosen Option : 2

Section : Part-B-General Knowledge and General awareness

Q.1 भारत के संविधान का कौन सा अनुच्छेद 'अस्पृश्यता' की अवधारणा को समाप्त करता है और किसी भी रूप में इसके व्यवहार को निषिद्ध करता है?

- Ans
- 1. 16
 - 2. 15
 - 3. 14
 - 4. 17

Question ID : 264330115638

Status : Answered

Chosen Option : 4

Q.2 निम्नलिखित में से कौन भारत के स्वतंत्रता आंदोलन के "लाल-बाल-पाल" में से एक थे?

- Ans
- 1. जवाहर लाल नेहरू
 - 2. लाला लाजपत राय
 - 3. चित्तरंजन दास
 - 4. लाल बहादुर शास्त्री

Question ID : 26433089897

Status : Answered

Chosen Option : 2

Q.3 केवल _____ वर्ष से अधिक की आयु के भारतीय नागरिक ही किसी राज्य के राज्यपाल के पद पर नियुक्ति के लिए पात्र होते हैं।

- Ans
- 1. 28
 - 2. 25
 - 3. 40
 - 4. 35

Question ID : 26433086854

Status : Answered

Chosen Option : 4

Q.4 विषम का चयन करें। (संकेत: वस्त्र उद्योग)

- Ans
- 1. कपास उद्योग
 - 2. रेशम उद्योग
 - 3. विद्युत उद्योग
 - 4. ऊन उद्योग

Question ID : 264330115584
Status : Answered
Chosen Option : 3

Q.5 निम्नलिखित में से कौन सी भारत में मीठे पानी की झील नहीं है?

- Ans
- 1. लोकतक
 - 2. सांभर
 - 3. बड़ापानी
 - 4. भीमताल

Question ID : 264330116008
Status : Answered
Chosen Option : 2

Q.6 निम्नलिखित में से किस उपकरण का उपयोग हवा या गैस की आर्द्रता को मापने के लिए किया जाता है?

- Ans
- 1. वायुवेगमापी
 - 2. हाइड्रोमीटर
 - 3. तेजमापी
 - 4. आर्द्रतामापी

Question ID : 264330115140
Status : Answered
Chosen Option : 4

Q.7 राजस्थान का प्रसिद्ध पुष्कर मेला एक वर्ष में _____ आयोजित होता है।

- Ans
- 1. चार बार
 - 2. एक बार
 - 3. तीन बार
 - 4. दो बार

Question ID : 264330115078
Status : Answered
Chosen Option : 2

Q.8 युकी भांबरी निम्नलिखित में से किस खेल से संबंधित है?

- Ans
- 1. टेनिस
 - 2. क्रिकेट
 - 3. बैडमिंटन
 - 4. बेसबॉल

Question ID : 264330116297
Status : Answered
Chosen Option : 1

Q.9 मानव विकास सूचकांक 2021 के संदर्भ में भारत की रैंक क्या है?

- Ans
- 1. 112
 - 2. 132
 - 3. 124
 - 4. 154

Question ID : 26433092885
Status : Answered
Chosen Option : 4

Q.10 दर्शना झावेरी को किस नृत्य शैली के लिए पद्मश्री प्राप्त हुआ था?

- Ans
- 1. मणिपुरी
 - 2. लावणी
 - 3. कथकली
 - 4. कथक

Question ID : 264330115880
Status : Answered
Chosen Option : 1

Q.11 निम्नलिखित में से किसने मार्च 2022 में गोवा के मुख्यमंत्री के रूप में शपथ ली?

- Ans
- 1. दिगंबर कामत
 - 2. प्रमोद सावंत
 - 3. सुदिन ढवळीकर
 - 4. मनोहर पर्रिकर

Question ID : 264330114892
Status : Answered
Chosen Option : 2

Q.12 स्वतंत्रता के समय, भारत की लगभग 75 प्रतिशत जनसंख्या _____ पर निर्भर थी।

- Ans
- 1. कृषि
 - 2. सेवा
 - 3. विनिर्माण
 - 4. खनन

Question ID : 26433054623
Status : Answered
Chosen Option : 1

Q.13 वह प्रजाति जो खाली एवं नग्न क्षेत्र पर _____ करती है मूल अन्वेषक प्रजाति कहलाती है।

- Ans
- 1. अंदर रहती
 - 2. आक्रमण
 - 3. छोड़ती
 - 4. बचती

Question ID : 264330115256
Status : Answered
Chosen Option : 2

Q.14 राजगृह कई वर्षों तक मगध की राजधानी रहा। बाद में राजधानी को _____ में स्थानांतरित कर दिया गया।

- Ans 1. उज्जैन
 2. पाटलिपुत्र
 3. काँचीपुरम
 4. तक्षशिला

Question ID : 264330115438
Status : Answered
Chosen Option : 2

Q.15 एशियाई खेल 2018 के उद्घाटन समारोह के लिए भारत के/की ध्वजवाहक कौन थे/थी?

- Ans 1. रानी रामपाल
 2. संजीव राजपूत
 3. नीरज चोपड़ा
 4. दीपक कुमार

Question ID : 264330115907
Status : Answered
Chosen Option : 3

Q.16 एक लेखा वर्ष के दौरान घरेलू क्षेत्र के _____ उत्पादित अंतिम माल और सेवाओं का कुल मूल्य, घरेलू आय कहलाती है।

- Ans 1. बाहर
 2. दूर
 3. भीतर
 4. के अलावा अन्य

Question ID : 264330115337
Status : Answered
Chosen Option : 3

Q.17 निम्नलिखित में से कौन-सा लोक नृत्य तमिलनाडु राज्य से संबंधित है?

- Ans 1. घपाल
 2. भांड
 3. लावणी
 4. कुम्मी

Question ID : 26433086716
Status : Answered
Chosen Option : 4

Q.18 भारत की पांचवीं पंचवर्षीय योजना का मुख्य उद्देश्य क्या था?

- Ans 1. गरीबी उन्मूलन
 2. अपशिष्ट प्रबंधन
 3. वनोन्मूलन
 4. राज्यों का केंद्रीकरण

Question ID : 264330115358
Status : Answered
Chosen Option : 1

Q.19 24 जून 2022 को, इंटेलिजेंस ब्यूरो के निदेशक के रूप में पदभार किसने संभाला?

- Ans 1. दिनेश्वर शर्मा
 2. तपन कुमार डेका
 3. अरविंद कुमार
 4. राजीव जैन

Question ID : 264330115040
Status : Answered
Chosen Option : 4

Q.20 _____ को 2019 में पारित किया गया था और इसके फलस्वरूप भारत के प्रधान मंत्री और अन्य पूर्व प्रधानमंत्रियों की सुरक्षा प्रतिबंधित कर दी गई थी।

- Ans 1. विशेष सुरक्षा समूह (संशोधन) अधिनियम, 2019
 2. सुरक्षा संरक्षण समूह (संशोधन) अधिनियम, 2019
 3. आकस्मिक संरक्षण समूह (संशोधन) अधिनियम, 2019
 4. विशेष प्रोटोकॉल समूह (संशोधन) अधिनियम, 2019

Question ID : 264330116226
Status : Answered
Chosen Option : 4

Section : Part-C-Elementary Mathematics

Q.1 एक कार्य को P और Q, 8 दिनों में, Q और R, 12 दिनों में तथा R और P, 15 दिनों में पूरा कर सकते हैं। R अकेले कार्य को पूरा करने में कितने दिन लेगा?

- Ans 1. 80
 2. 90
 3. 50
 4. 70

Question ID : 26433064932
Status : Answered
Chosen Option : 1

Q.2 निम्नलिखित को हल कीजिए।

$$15.2625 - [5.2 + 0.25 \times (4.78 - 1.5 \times 3.02)]$$

- Ans
- 1. 1.8
 - 2. 11
 - 3. 9
 - 4. 10

Question ID : 26433076300
Status : Not Answered
Chosen Option : --

Q.3 अंकित मूल्य पर 10% की छूट देने के बाद, एक वाशिंग मशीन का मूल्य Rs.28,800 है। यदि कोई छूट नहीं दी जाती है, तो दुकानदार को 25% लाभ होता है। वाशिंग मशीन का क्रय मूल्य _____ है।

- Ans
- 1. Rs.26,600
 - 2. Rs.25,600
 - 3. Rs.26,200
 - 4. Rs.28,000

Question ID : 26433074960
Status : Answered
Chosen Option : 2

Q.4 दो ट्रेनें एक ही समय पर दो स्टेशनों से चलना शुरू करती हैं, और क्रमशः 40 km/h और 45 km/h की चाल से एक-दूसरे की ओर बढ़ती हैं। जब वे मिलती हैं, तो पता चलता है कि एक ट्रेन ने दूसरी से 20 km अधिक दूरी तय की है। दोनों स्टेशनों के बीच की दूरी ज्ञात कीजिए।

- Ans
- 1. 400 km
 - 2. 340 km
 - 3. 395 km
 - 4. 390 km

Question ID : 26433074967
Status : Not Answered
Chosen Option : --

Q.5 एक स्टोर '4 खरीदें 1 मुफ्त पाएँ' प्रमोशन स्कीम चला रहा है। शुद्ध छूट प्रतिशत क्या है?

- Ans
- 1. 15%
 - 2. 20%
 - 3. 18.5%
 - 4. 22%

Question ID : 26433065277
Status : Answered
Chosen Option : 2

Q.6 एक व्यापारी ₹85,000 मूल्य पर अंकित एक पुरानी कार खरीदता है और 20% और 10% की क्रमिक छूट प्राप्त करता है। वह इसकी मरम्मत पर ₹3,800 खर्च करता है और इसे 20% के लाभ पर बेच देता है। कार का विक्रय मूल्य ज्ञात कीजिए।

- Ans
- 1. ₹75,000
 - 2. ₹1,00,000
 - 3. ₹80,000
 - 4. ₹78,000

Question ID : 26433090287
Status : Answered
Chosen Option : 4

Q.7 एक शहर में 12000 मतदाता हैं। उनमें से 30% ने A को, 25% ने B को और 40% ने C को मत दिया। उन मतदाताओं की संख्या निर्धारित कीजिए, जिन्होंने इन तीन उम्मीदवारों में से किसी को भी मत नहीं दिया।

- Ans
- 1. 500
 - 2. 800
 - 3. 400
 - 4. 600

Question ID : 26433071303
Status : Answered
Chosen Option : 4

Q.8 आठ विद्यार्थियों के औसत अंक 7 हैं। यह पाया गया कि एक विद्यार्थी के अंक 6 के स्थान पर 10 लिए गए हैं। सही औसत ज्ञात कीजिए।

- Ans
- 1. 7
 - 2. 6.8
 - 3. 6.5
 - 4. 7.5

Question ID : 26433074563
Status : Answered
Chosen Option : 3

Q.9 x का ऐसा न्यूनतम मान ज्ञात कीजिए, ताकि 5 अंकीय संख्या 725x3, 9 से विभाज्य हो जाए।

- Ans
- 1. 1
 - 2. 6
 - 3. 0
 - 4. 3

Question ID : 26433074450
Status : Answered
Chosen Option : 1

Q.10 किसी वस्तु के 5% और 10% के लाभ पर विक्रय मूल्यों के बीच का नकद अंतर Rs.5 है। दोनों विक्रय मूल्यों का अनुपात ज्ञात कीजिए।

- Ans
- 1. 5 : 10
 - 2. 21 : 22
 - 3. 23 : 25
 - 4. 10 : 5

Question ID : 26433073008
Status : Answered
Chosen Option : 2

Q.11 यदि एक गोले का व्यास 14 cm है, तो उसका आयतन ज्ञात कीजिए। (मान लीजिए $\pi = \frac{22}{7}$).

- Ans
- 1. 2437.34 cm³
 - 2. 1537.23 cm³
 - 3. 1437.33 cm³
 - 4. 1637.13 cm³

Question ID : 26433075249
Status : Answered
Chosen Option : 3

Q.12 अनीश एक कार्य 88 दिनों में कर सकता है। युग यह कार्य 66 दिनों में कर सकता है। अनीश ने अकेले कार्य शुरू किया। कितने दिनों के बाद युग को उसके साथ जुड़ना चाहिए, ताकि कार्य 44 दिनों में समाप्त हो जाए?

- Ans
- 1. 11 दिन
 - 2. 13 दिन
 - 3. 15 दिन
 - 4. 12 दिन

Question ID : 264330116910
Status : Answered
Chosen Option : 1

Q.13 एक समबाहु त्रिभुज, जिसकी भुजा a इकाई है, को एक समषट्भुज बनाने के लिए शीर्षों पर काटा जाता है। षट्भुज का क्षेत्रफल कितना है?

- Ans
- 1. $\frac{2a^2}{\sqrt{3}}$ वर्ग इकाई
 - 2. $\frac{a^2}{2\sqrt{3}}$ वर्ग इकाई
 - 3. $\frac{3a^2}{2\sqrt{3}}$ वर्ग इकाई
 - 4. $\frac{2a^2}{3\sqrt{3}}$ वर्ग इकाई

Question ID : 26433071368
Status : Not Answered
Chosen Option : --

Q.14 A, B और C एक क्रिकेट टीम के तीन बल्लेबाज हैं। एक निश्चित मैच में उनके द्वारा बनाए गए रनों का अनुपात दिया गया है।

A : B = 6 : 7 और B : C = 5 : 6 है। मैच के अंत में, A, B और C ने मिलकर 856 रन बनाए। B ने कितने रन बनाए?

- Ans
- 1. 216
 - 2. 224
 - 3. 265
 - 4. 280

Question ID : 26433074992

Status : Answered

Chosen Option : 4

Q.15 एक निश्चित राशि पर 2 वर्ष के लिए 10% प्रतिवर्ष की दर से वार्षिक संयोजन पर चक्रवृद्धि ब्याज लिया जाता है। यदि मिश्रधन ₹605 हो जाता है, तो मूलधन (₹ में) _____ है।

- Ans
- 1. 650
 - 2. 600
 - 3. 500
 - 4. 550

Question ID : 26433075884

Status : Answered

Chosen Option : 3

Q.16 A, B और C ने क्रमशः ₹10,000, ₹15,000 और ₹20,000 का निवेश किया। एक वर्ष बाद A और B प्रत्येक ने ₹5,000 अधिक निवेश किए, जबकि C ने ₹10,000 निकाल लिए। शुरू होने के 3 वर्ष बाद A, B और C के लाभ का अनुपात क्या होगा?

- Ans
- 1. 8 : 8 : 11
 - 2. 2 : 2 : 4
 - 3. 8 : 11 : 8
 - 4. 2 : 3 : 4

Question ID : 26433082098

Status : Not Answered

Chosen Option : --

Q.17 एक ट्रेन विपरीत दिशा में समान चाल से चल रही दूसरी ट्रेन को 5 सेकंड में पार करती है। यदि पहली ट्रेन की चाल दोगुनी हो जाती है, और दूसरी ट्रेन की चाल आधी हो जाती है, तो दोनों ट्रेनों द्वारा एक दूसरे को पार करने में लिया गया समय _____ सेकंड होगा।

- Ans
- 1. 5
 - 2. 4
 - 3. 6
 - 4. 3

Question ID : 26433071263

Status : Not Answered

Chosen Option : --

Q.18 यदि किसी घन की प्रत्येक भुजा में 15% की वृद्धि की जाती है, तो घन के आयतन में कितने प्रतिशत वृद्धि होगी? (केवल पूर्णांक भाग पर विचार करें)

- Ans
- ✓ 1. 52%
 - ✗ 2. 35%
 - ✗ 3. 42%
 - ✗ 4. 45%

Question ID : 26433076264
Status : Not Answered
Chosen Option : --

Q.19 एक ट्रेन स्टेशन P से चलना आरंभ होती है, स्टेशनों Q, R, S, T से होती हुई चलती है और स्टेशन U तक पहुँचती है। यह स्टेशनों Q, R, S और T पर क्रमशः 2 मिनट, 4 मिनट, 6 मिनट और 8 मिनट के लिए रुकती है। P और U के बीच की दूरी 50 km है। स्टेशन P और U के बीच ट्रेन की औसत चाल (km/h में) क्या है, यदि यह स्टेशनों के बीच 70 मिनट के लिए एक समान चाल से चलती है?

- Ans
- ✓ 1. $\frac{100}{3}$
 - ✗ 2. $\frac{110}{3}$
 - ✗ 3. $\frac{100}{6}$
 - ✗ 4. $\frac{110}{4}$

Question ID : 26433085431
Status : Not Answered
Chosen Option : --

Q.20 ₹10,00,000 पर 3% वार्षिक की दर से वार्षिक चक्रवृद्धि आधार पर गणना किया गया चक्रवृद्धि ब्याज ₹92,727 है। इसके लिए अपेक्षित वर्षों की संख्या है:

- Ans
- ✗ 1. 4
 - ✓ 2. 3
 - ✗ 3. 5
 - ✗ 4. 2

Question ID : 26433091993
Status : Answered
Chosen Option : 2

Q.1 Select the most appropriate synonym of the given word.

Antagonist

- Ans 1. Adversary
 2. Evil
 3. Nerd
 4. Amiable

Question ID : 26433072346
Status : Not Answered
Chosen Option : --

Q.2 Select the most appropriate option to fill in the blank.

He used to _____ letters to his parents from Bangalore.

- Ans 1. wright
 2. rite
 3. right
 4. write

Question ID : 26433084713
Status : Not Answered
Chosen Option : --

Q.3 Select the most appropriate ANTONYM of the given word.

Diminish

- Ans 1. Futile
 2. Decline
 3. Empty
 4. Grow

Question ID : 26433090790
Status : Not Answered
Chosen Option : --

Q.4 Select the most appropriate option to fill in the blank.

History is not only a very vast subject _____ very intriguing.

- Ans 1. and
 2. besides
 3. also
 4. but also

Question ID : 26433071814
Status : Not Answered
Chosen Option : --

Q.5 Select the most appropriate option that can substitute the underlined segment in the given sentence. If there is no need to substitute it, select 'No substitution'.

Having a party is a bad idea because the neighbours are complain.

- Ans
- 1. No substitution
 - 2. because the neighbours will complain
 - 3. because the neighbours has been complaining
 - 4. because the neighbours had complained

Question ID : 264330101019
Status : Not Answered
Chosen Option : --

Q.6 Select the most appropriate meaning of the given idiom.

Be riding high

- Ans
- 1. To be very successful
 - 2. A drunken person
 - 3. A person who is a pilot
 - 4. To be in good mood

Question ID : 26433085200
Status : Not Answered
Chosen Option : --

Q.7 The sentence given below has one misspelt word. Spot the INCORRECTLY spelt word and select its correct spelling.

There are some venmous snakes which spit and hiss when they are cornered.

- Ans
- 1. Venomous
 - 2. Venomos
 - 3. Wenomos
 - 4. Wenomous

Question ID : 26433073559
Status : Not Answered
Chosen Option : --

Q.8 Select the most appropriate ANTONYM of the word given in the bracket to fill in the blank.

She looks like a young Sigourney Weaver and plays the (naïve) _____ heroine well, if a little too credulous for my taste.

- Ans
- 1. tricked
 - 2. childish
 - 3. careless
 - 4. sophisticated

Question ID : 26433072046
Status : Not Answered
Chosen Option : --

Q.9 Select the most appropriate **ANTONYM** of the given word.
Cruel

- Ans** 1. Unkind
 2. Sensible
 3. Derogatory
 4. Sympathetic

Question ID : 26433093033
Status : **Not Answered**
Chosen Option : --

Q.10 Identify the correctly spelt sentence.

- Ans** 1. Egypt is famous for its piramid.
 2. Egypt is famous for its pyramid.
 3. Egypt is famous for its peramid.
 4. Egypt is famous for its peryamid.

Question ID : 26433072838
Status : **Not Answered**
Chosen Option : --

Q.11 Select the most appropriate meaning of the given idiom.

A vicious cycle

- Ans** 1. Series of fortunate events
 2. When one problem causes another problem
 3. Cyclical relationships
 4. Victorious efforts

Question ID : 26433073998
Status : **Not Answered**
Chosen Option : --

Q.12 The following sentence has been split into four segments. Identify the segment that contains a grammatical error.

Very few animals / was / as faithful as / the dog.

- Ans** 1. Very few animals
 2. was
 3. as faithful as
 4. the dog

Question ID : 26433088100
Status : **Not Answered**
Chosen Option : --

Q.13 Select the most appropriate option that can substitute the underlined segment in the given sentence. If there is no need to substitute it, select 'No substitution required'.

Rising prices are causing great concern on Indian economists at the present moment.

- Ans
- 1. are causing a great concern to Indian economists
 - 2. are causing a great concern for Indian economists
 - 3. No substitution required
 - 4. are causing great concern to Indian economists

Question ID : 26433089401
Status : Not Answered
Chosen Option : --

Q.14 Complete the sentence with the most appropriate synonym of the word in brackets.

The _____ (glowing) fireflies lit up the field like city lights at night.

- Ans
- 1. devious
 - 2. furious
 - 3. gracious
 - 4. dazzling

Question ID : 26433089752
Status : Not Answered
Chosen Option : --

Q.15 Select the most appropriate synonym of the capitalised word in the given sentence.

We paid her a FLEETING visit before leaving the country.

- Ans
- 1. Final
 - 2. Brief
 - 3. Last
 - 4. Hasty

Question ID : 26433088206
Status : Not Answered
Chosen Option : --

Comprehension:

In the following passage, some words have been deleted. Read the passage carefully and select the most appropriate option to fill in each blank.

A puzzle is a game, challenge, or toy that (1)_____ one's inventiveness or knowledge. The solver of a puzzle is supposed to (2)_____ parts together logically to arrive at the correct or enjoyable solution to the challenge. Crossword puzzles, word-search puzzles, number puzzles, relational puzzles, and logic puzzles are examples of puzzle (3)_____. Puzzles are frequently developed for fun purposes, but they may also result from (4)_____ mathematical or logical challenges. In such circumstances, its answer might make an important (5)_____ to mathematical research.

SubQuestion No : 16

Q.16 Select the most appropriate option to fill in blank no. 1.

- Ans 1. elicits
 2. tests
 3. invokes
 4. enjoys

Question ID : 26433058709

Status : Not Answered

Chosen Option : --

Comprehension:

In the following passage, some words have been deleted. Read the passage carefully and select the most appropriate option to fill in each blank.

A puzzle is a game, challenge, or toy that (1)_____ one's inventiveness or knowledge. The solver of a puzzle is supposed to (2)_____ parts together logically to arrive at the correct or enjoyable solution to the challenge. Crossword puzzles, word-search puzzles, number puzzles, relational puzzles, and logic puzzles are examples of puzzle (3)_____. Puzzles are frequently developed for fun purposes, but they may also result from (4)_____ mathematical or logical challenges. In such circumstances, its answer might make an important (5)_____ to mathematical research.

SubQuestion No : 17

Q.17 Select the most appropriate option to fill in blank no. 2.

- Ans 1. paste
 2. fit
 3. manifest
 4. disintegrate

Question ID : 26433058710

Status : Not Answered

Chosen Option : --

Comprehension:

In the following passage, some words have been deleted. Read the passage carefully and select the most appropriate option to fill in each blank.

A puzzle is a game, challenge, or toy that (1)_____ one's inventiveness or knowledge. The solver of a puzzle is supposed to (2)_____ parts together logically to arrive at the correct or enjoyable solution to the challenge. Crossword puzzles, word-search puzzles, number puzzles, relational puzzles, and logic puzzles are examples of puzzle (3)_____. Puzzles are frequently developed for fun purposes, but they may also result from (4)_____ mathematical or logical challenges. In such circumstances, its answer might make an important (5)_____ to mathematical research.

SubQuestion No : 18

Q.18 Select the most appropriate option to fill in blank no. 3.

- Ans 1. attachment
 2. genres
 3. species
 4. aggregates

Question ID : 26433058711

Status : Not Answered

Chosen Option : --

Comprehension:

In the following passage, some words have been deleted. Read the passage carefully and select the most appropriate option to fill in each blank.

A puzzle is a game, challenge, or toy that (1)_____ one's inventiveness or knowledge. The solver of a puzzle is supposed to (2)_____ parts together logically to arrive at the correct or enjoyable solution to the challenge. Crossword puzzles, word-search puzzles, number puzzles, relational puzzles, and logic puzzles are examples of puzzle (3)_____. Puzzles are frequently developed for fun purposes, but they may also result from (4)_____ mathematical or logical challenges. In such circumstances, its answer might make an important (5)_____ to mathematical research.

SubQuestion No : 19

Q.19 Select the most appropriate option to fill in blank no. 4.

- Ans 1. subordinate
 2. servile
 3. significant
 4. subsidiary

Question ID : 26433058712

Status : Not Answered

Chosen Option : --

Comprehension:

In the following passage, some words have been deleted. Read the passage carefully and select the most appropriate option to fill in each blank.

A puzzle is a game, challenge, or toy that (1)_____ one's inventiveness or knowledge. The solver of a puzzle is supposed to (2)_____ parts together logically to arrive at the correct or enjoyable solution to the challenge. Crossword puzzles, word-search puzzles, number puzzles, relational puzzles, and logic puzzles are examples of puzzle (3)_____. Puzzles are frequently developed for fun purposes, but they may also result from (4)_____ mathematical or logical challenges. In such circumstances, its answer might make an important (5)_____ to mathematical research.

SubQuestion No : 20

Q.20 Select the most appropriate option to fill in blank no. 5.

- Ans
- 1. annexation
 - 2. deviation
 - 3. inspection
 - 4. addition

Question ID : 26433058713

Status : Not Answered

Chosen Option : --

Section : Part-D-Hindi

Q.1 निम्नलिखित में से कौन-सा वाक्य संज्ञा के प्रयोग की दृष्टि से सर्वाधिक उपयुक्त है?

- Ans
- 1. उन्नति के मार्ग में बड़े दुःख हैं।
 - 2. उन्नति के मार्ग में अनेक बाधाएँ हैं।
 - 3. उन्नति के मार्ग में बहुत संकट हैं।
 - 4. उन्नति के मार्ग में बहुत आपत्ति हैं।

Question ID : 26433066955

Status : Answered

Chosen Option : 2

Q.2 विकल्पों में दिया गया कौन सा शब्द निम्नलिखित वाक्य में रेखांकित शब्द का पर्यायवाची नहीं है?
मेरा घर मेरे विद्यालय के 'पास' ही है।

- Ans
- 1. निकट
 - 2. समीप
 - 3. दूर
 - 4. सन्निकट

Question ID : 26433091335

Status : Answered

Chosen Option : 3

Q.3 'कुत्ता रेंकता है।' इस वाक्य में रेखांकित शब्द के स्थान पर कौनसा शब्द उपयुक्त होगा?

- Ans
- 1. दहाड़ता
 - 2. भौंकता
 - 3. चिंघाड़ता
 - 4. रम्भाता

Question ID : 26433062200
Status : Answered
Chosen Option : 2

Q.4 'जिसे मापा न जा सके'
ऊपर दिए गए वाक्यांश के लिए एक शब्द क्या होगा?

- Ans
- 1. अपरिमेय
 - 2. सीमित
 - 3. परिमाण
 - 4. अप्रमेय

Question ID : 26433070053
Status : Answered
Chosen Option : 1

Q.5 दिए गए वाक्यों में से किस वाक्य में सही विभक्ति चिह्न का प्रयोग नहीं हुआ है?

- Ans
- 1. वह आज हम सब के लिए मिठाई लाया था।
 - 2. अमिताभ बच्चन की फिल्में अच्छी होती हैं।
 - 3. आंटी ने उसे एक डिब्बे में मिठाई दी थी।
 - 4. सारा तीलियों ने एक पेंटिंग बना रही है।

Question ID : 26433062863
Status : Answered
Chosen Option : 4

Q.6 निम्नलिखित में से शुद्ध वाक्य है-

- Ans
- 1. लाल रोशन देखकर सावधान हो जाओ।
 - 2. लाल रोशनी देखकर सावधान हो जाओ।
 - 3. लाल रोशनी देखकर शवधान हो जाओ।
 - 4. लाल रोशनी देखकर सावधान हो जाओ।

Question ID : 26433066844
Status : Answered
Chosen Option : 4

Q.7 'सुकृति' का अर्थ है, पुण्य। आप 'सुकृती' के अर्थ से निम्न वाक्य पूर्ति कीजिए।
व्यक्ति ही मोक्ष प्राप्त करता है।

- Ans 1. पुण्यवान
 2. पंडित
 3. अमीर
 4. सुंदर

Question ID : 26433063079
Status : Answered
Chosen Option : 1

Q.8 'अपना हाथ जगन्नाथ' मुहावरे का सही अर्थ क्या है?

- Ans 1. अपना काम खुद करने से भला होता है
 2. आशीर्वाद देना
 3. आशीर्वाद पाना
 4. किसी व्यक्ति के हाथ से सब अच्छा होना

Question ID : 26433062600
Status : Answered
Chosen Option : 1

Q.9 निम्नलिखित में से शुद्ध वाक्य है-

- Ans 1. सीता किताब पठित है।
 2. सीता किताब पढ़ती है।
 3. सीता कितब पढ़ती है।
 4. सीता किताब पढ़ है।

Question ID : 26433066837
Status : Answered
Chosen Option : 2

Q.10 निम्न वाक्य में रेखांकित अंश के स्थान पर सबसे उपयुक्त विकल्प इनमें से कौन-सा होगा?
दूध में जामुन डालने से दही बनता है।

- Ans 1. जामन
 2. इमली
 3. आम
 4. लीची

Question ID : 26433066872
Status : Answered
Chosen Option : 1

Q.11 'आँख में अंजन दांत में मंजन।' वाक्य में प्रयुक्त 'अंजन' शब्द निम्न में से किस अर्थ को व्यक्त करता है?

- Ans 1. रात
 2. काजल
 3. लेप
 4. माया

Question ID : 26433069729
Status : Answered
Chosen Option : 2

Q.12 'समाचार पत्रों में _____ के लिए सूचना प्रकाशित की जाती है।' उपरोक्त वाक्य के रिक्त स्थान की पूर्ति विकल्पों में से सर्वोचित शब्द के चयन द्वारा कीजिए।

- Ans 1. आपके
 2. सर्वसाधारण
 3. हमारे
 4. साधारण

Question ID : 26433080898
Status : Not Answered
Chosen Option : --

Q.13 दिए गये वाक्यांश के लिए सार्थक शब्द बताइए - 'जो गाँव से सम्बन्धित हो'

- Ans 1. ग्रमागत
 2. देशज
 3. ग्रामीण
 4. ग्रामसेवी

Question ID : 26433062593
Status : Answered
Chosen Option : 3

Q.14 निम्न समानार्थी शब्दों में से उचित शब्द का प्रयोग करके दिए गए वाक्य के रिक्त स्थान की पूर्ति करें—
विधानसभा का चुनाव एक निश्चित _____ के लिए होता है।

- Ans 1. समय
 2. अवधि
 3. काल
 4. युग

Question ID : 26433062931
Status : Answered
Chosen Option : 2

Q.15 'बंदर क्या जाने नीबू का स्वाद।' इस मुहावरे में कौन सा शब्द अशुद्ध है?

- Ans
- 1. क्या
 - 2. नीबू
 - 3. स्वाद
 - 4. बंदर

Question ID : 26433062816

Status : Answered

Chosen Option : 2

Comprehension:

निम्नलिखित गद्यांश में कुछ शब्दों को हटा दिया गया है। दिए गए विकल्पों की सहायता से रिक्त स्थानों की पूर्ति कीजिए। प्रत्येक संख्या के लिए सबसे उपयुक्त विकल्प का चयन करें।
सच्चा मित्र एक 1. _____ की तरह होता है। सच्चा मित्र खोज पाना 2. _____ काम नहीं है। ऐसा मित्र 3. _____ नहीं होता। उसे आपकी 4. _____ से कोई मोह नहीं होता। वह अपने मित्र की 5. _____ को किसी के सामने उजागर नहीं करता।

SubQuestion No : 16

Q.16 रिक्त स्थान 1 की पूर्ति के लिए सबसे उपयुक्त विकल्प का चयन करें।

- Ans
- 1. सोना
 - 2. मंडन
 - 3. रूपए
 - 4. खजाने

Question ID : 264330110849

Status : Answered

Chosen Option : 4

Comprehension:

निम्नलिखित गद्यांश में कुछ शब्दों को हटा दिया गया है। दिए गए विकल्पों की सहायता से रिक्त स्थानों की पूर्ति कीजिए। प्रत्येक संख्या के लिए सबसे उपयुक्त विकल्प का चयन करें।
सच्चा मित्र एक 1. _____ की तरह होता है। सच्चा मित्र खोज पाना 2. _____ काम नहीं है। ऐसा मित्र 3. _____ नहीं होता। उसे आपकी 4. _____ से कोई मोह नहीं होता। वह अपने मित्र की 5. _____ को किसी के सामने उजागर नहीं करता।

SubQuestion No : 17

Q.17 रिक्त स्थान 2 की पूर्ति के लिए सबसे उपयुक्त विकल्प का चयन करें।

- Ans
- 1. विकट
 - 2. सरल
 - 3. दुर्बोध
 - 4. कठिन

Question ID : 264330110850

Status : Answered

Chosen Option : 2

Comprehension:

निम्नलिखित गद्यांश में कुछ शब्दों को हटा दिया गया है। दिए गए विकल्पों की सहायता से रिक्त स्थानों की पूर्ति कीजिए। प्रत्येक संख्या के लिए सबसे उपयुक्त विकल्प का चयन करें।
सच्चा मित्र एक 1. _____ की तरह होता है। सच्चा मित्र खोज पाना 2. _____ काम नहीं है। ऐसा मित्र 3. _____ नहीं होता। उसे आपकी 4. _____ से कोई मोह नहीं होता। वह अपने मित्र की 5. _____ को किसी के सामने उजागर नहीं करता।

SubQuestion No : 18

Q.18 रिक्त स्थान 3 की पूर्ति के लिए सबसे उपयुक्त विकल्प का चयन करें।

- Ans 1. स्वार्थी
 2. परमार्थ
 3. सामान्य
 4. प्रयोजन

Question ID : 264330110851
Status : Answered
Chosen Option : 1

Comprehension:

निम्नलिखित गद्यांश में कुछ शब्दों को हटा दिया गया है। दिए गए विकल्पों की सहायता से रिक्त स्थानों की पूर्ति कीजिए। प्रत्येक संख्या के लिए सबसे उपयुक्त विकल्प का चयन करें।
सच्चा मित्र एक 1. _____ की तरह होता है। सच्चा मित्र खोज पाना 2. _____ काम नहीं है। ऐसा मित्र 3. _____ नहीं होता। उसे आपकी 4. _____ से कोई मोह नहीं होता। वह अपने मित्र की 5. _____ को किसी के सामने उजागर नहीं करता।

SubQuestion No : 19

Q.19 रिक्त स्थान 4 की पूर्ति के लिए सबसे उपयुक्त विकल्प का चयन करें।

- Ans 1. उदारता
 2. धन-दौलत
 3. नाकामयाबी
 4. प्रसिद्धि

Question ID : 264330110852
Status : Answered
Chosen Option : 2

Comprehension:

निम्नलिखित गद्यांश में कुछ शब्दों को हटा दिया गया है। दिए गए विकल्पों की सहायता से रिक्त स्थानों की पूर्ति कीजिए। प्रत्येक संख्या के लिए सबसे उपयुक्त विकल्प का चयन करें।
सच्चा मित्र एक 1. _____ की तरह होता है। सच्चा मित्र खोज पाना 2. _____ काम नहीं है। ऐसा मित्र 3. _____ नहीं होता। उसे आपकी 4. _____ से कोई मोह नहीं होता। वह अपने मित्र की 5. _____ को किसी के सामने उजागर नहीं करता।

SubQuestion No : 20

Q.20 रिक्त स्थान 5 की पूर्ति के लिए सबसे उपयुक्त विकल्प का चयन करें।

- Ans 1. लोकप्रियता
 2. कामयाबी
 3. कमजोरी
 4. गुमनामी

Question ID : 264330110853
Status : Answered
Chosen Option : 3

Constable GD in CAPFs SSF Rifleman GD in Assam Rifles and Sepoy in NCB Examination 2022

Roll Number	KD Job Updates
Candidate Name	KD Job Updates
Venue Name	iON Digital Zone iDZ Dohna
Exam Date	06/02/2023
Exam Time	11:45 AM - 12:45 PM
Subject	Constable GD Examination 2022

Section : Part-A-General Intelligence and Reasoning

Q.1 कौन-सा अक्षर-समूह दी गई श्रृंखला में प्रश्नचिह्न (?) के स्थान पर आकर श्रृंखला को पूर्ण करेगा?
WGVQ, CWHY, ?, OCFO, USRW

- Ans
- 1. HWBT
 - 2. IMTG
 - 3. OSXG
 - 4. TDGT

Question ID : 26433079428
Status : Answered
Chosen Option : 2

Q.2 दी गई आकृति की सही दर्पण-प्रतिबिंब का चयन करें, जब दर्पण को MN पर रखा जाता है, जैसा कि नीचे दिखाया गया है।

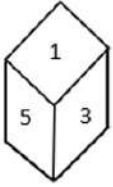


- Ans
- 1. 7 5 8 U 6 e ?
 - 2. 7 5 8 U 6 9 ?
 - 3. 7 5 8 U 6 e ?
 - 4. 7 5 8 U 6 e ?

Question ID : 26433090148
Status : Answered
Chosen Option : 3

Q.3 एक ही पासे की दो अलग-अलग स्थितियों को दर्शाया गया है जिस पर 1 से 6 तक के अंक को दर्शाया गया

है। '1' दर्शाने वाले फलक के विपरीत फलक पर स्थित अंक ज्ञात कीजिए।



Ans 1. 4

2. 6

3. 3

4. 2

Question ID : 26433085518

Status : Answered

Chosen Option : 2

Q.4 किसी निश्चित कोड भाषा में INVADE को 'LRYEGI' के रूप में लिखा गया है और CATER को 'FEWIU' के रूप में लिखा गया है। उसी कोड भाषा में WIRING को किस प्रकार लिखा जाएगा?

Ans 1. ZNUNQK

2. ZMUMQK

3. ZMVMQL

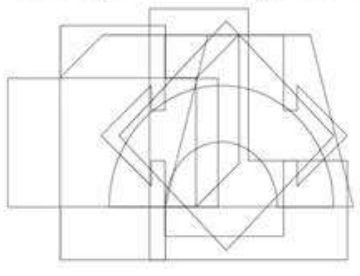
4. ZMVMQK

Question ID : 26433076684

Status : Answered

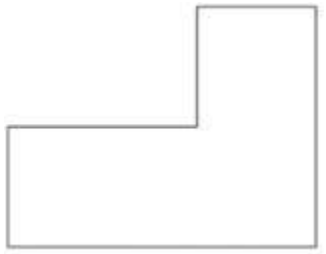
Chosen Option : 2

Q.5 उस विकल्प आकृति का चयन करें जो नीचे दी गई आकृति में अंतर्निहित है।
(आकृति घुमाने की अनुमति नहीं है)



Ans


✗ 1.



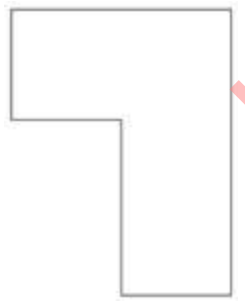
✗ 2.



✓ 3.



✗ 4.



KD Job Updates

Question ID : 26433085748
Status : Answered
Chosen Option : 3

Q.6 छः व्यक्ति - H, R, J, S, N और B एक पंक्ति में उत्तर की ओर मुख करके बैठे हैं। B, J के बगल में नहीं बैठा है, जो दाएं सिरे पर बैठा है। H, N और B के ठीक बगल में बैठा है। N, S और J के बगल में नहीं बैठा है। R, S और J के ठीक बगल में बैठा है। B के दाईं ओर ठीक बगल में कौन बैठा है?

- Ans 1. S
 2. N
 3. H
 4. J

Question ID : 26433079064
Status : Answered
Chosen Option : 1

Q.7 'A = B' का अर्थ है 'A, B का पुत्र है'
'A * B' का अर्थ है 'A, B की माता है'
'A % B' का अर्थ है 'A, B का पति है'
'A \$ B' का अर्थ है 'A, B की बहन है'
यदि 'X \$ D = M * N' है, तो M, X से किस प्रकार संबंधित है?

- Ans 1. दादी
 2. माता
 3. पुत्री
 4. बहन

Question ID : 26433087129
Status : Answered
Chosen Option : 2

Q.8 निम्नलिखित में से कौन-सी संख्या दी गई श्रंखला में प्रश्न-चिह्न (?) के स्थान पर आएगी?
3, ?, 27, 44, 63, 86, 115

- Ans 1. 11
 2. 17
 3. 19
 4. 14

Question ID : 26433090060
Status : Answered
Chosen Option : 4

Q.9 किस विकल्प में निम्नलिखित शब्दों का वह क्रम दिया गया है, जिस क्रम में वे अंग्रेजी शब्दकोश में आते हैं।

- 1 Train
- 2 Truck
- 3 Transport
- 4 Travel
- 5 Trade

- Ans 1. 5,4,3,1,2
 2. 5,1,4,2,3
 3. 5,3,1,4,2
 4. 5,1,3,4,2

Question ID : 26433069277
Status : Answered
Chosen Option : 4

Q.10 उस विकल्प का चयन करें जो तीसरे शब्द से उसी प्रकार संबंधित है जिस प्रकार दूसरा शब्द पहले शब्द से संबंधित है।
(शब्दों को अर्थपूर्ण शब्दों के रूप में मानना है, और उन्हें शब्द में अक्षरों/व्यंजनों/स्वरों की संख्या के आधार पर एक-दूसरे से संबंधित नहीं करना है।)
थलसेना : भूमि :: नौसेना : ?

- Ans
- 1. पर्वत
 - 2. जंगल
 - 3. जल
 - 4. रेगिस्तान

Question ID : 26433087196

Status : Answered

Chosen Option : 3

Q.11 नीचे दिए गए समीकरण को सही बनाने के लिए किन दो चिन्हों को गणितीय रूप से परस्पर बदलना चाहिए?

$$18 + 72 \div 12 \times 36 - 12 = 132$$

- Ans
- 1. ÷ और -
 - 2. + और -
 - 3. × और ÷
 - 4. × और +

Question ID : 264330117565

Status : Answered

Chosen Option : 4

KD Job Updates

Q.12 यदि श्रृंखला जारी रखनी है तो कौन-सी आकृति प्रश्न चिह्न (?) के स्थान पर

आएगी?

5	X	D	☆	V	□	S	☆	V	X	D	N	
L	O	N	N	3	L	3	L	□	□	Z	3	?
□	V	☆	D	X	5	N	D	X	V	☆	S	

Ans

✓ 1.

F	X	D
Z	3	N
□	V	☆

✗ 2.

S	☆	V
3	F	□
N	D	X

✗ 3.

F	X	D
N	□	Z
3	V	☆

✗ 4.

S	X	N
Z	3	N
□	V	☆

KD Job Updates

Question ID : 26433076629

Status : Answered

Chosen Option : 3

Q.13 Three statements are given, followed by three conclusions numbered I, II and III. Assuming the statements to be true, even if they seem to be at variance with commonly known facts, decide which of the conclusions logically follow(s) from the statements.

Statements:

No carrots are beets.

Some carrots are gingers.

Some gingers are beets.

Conclusions:

I. All beets are gingers.

II. Some gingers are carrots.

III. Some beets are carrots.

- Ans
- 1. Only conclusions I and III follow
 - 2. Only conclusions II and III follow
 - 3. All conclusions follow
 - 4. Only conclusion II follows

Question ID : 26433090999

Status : Answered

Chosen Option : 1

Q.14 उस विकल्प का चयन करें, जो चौथे पद से उसी प्रकार संबंधित है, जिस प्रकार पहला पद दूसरे पद से संबंधित है और पाँचवाँ पद छठे पद से संबंधित है।
625 : 35 :: ? : 27 :: 361 : 29

- Ans
- 1. 256
 - 2. 100
 - 3. 289
 - 4. 121

Question ID : 26433074550

Status : Answered

Chosen Option : 3

Q.15 निम्नलिखित में से कौन-सा अक्षर नीचे दी गई अक्षर श्रृंखला में प्रश्न-चिह्न (?) के स्थान पर आकर श्रृंखला को पूर्ण करेगा?
I, K, O, U, C, ?

- Ans
- 1. L
 - 2. K
 - 3. N
 - 4. M

Question ID : 26433067291

Status : Answered

Chosen Option : 4

Q.16 निम्नलिखित में से कौन-सी संख्या दी गई श्रेणी में प्रश्न-चिह्न (?) के स्थान पर आएगी?
7, 21, 25, ?, 131, 917

- Ans
- 1. 105
 - 2. 120
 - 3. 125
 - 4. 115

Question ID : 26433069082

Status : Answered

Chosen Option : 3

Q.17 एक निश्चित कूट भाषा में, 'Tango is dance' को 'de be le' के रूप में लिखा जाता है, 'dance is practice' को 'le be ke' के रूप में लिखा जाता है और 'let's dance' को 're le' के रूप में लिखा जाता है। उसी भाषा में 'practice' को कैसे लिखा जाएगा?

- Ans
- 1. be
 - 2. le
 - 3. de
 - 4. ke

Question ID : 26433070328

Status : Answered

Chosen Option : 4

Q.18 सात व्यक्ति Z, H, B, W, S, R और G एक सीधी पंक्ति में उत्तर की ओर मुख करके बैठते हैं। S के बाईं ओर केवल दो व्यक्ति बैठते हैं। H के दाईं ओर केवल दो व्यक्ति बैठते हैं। G और Z के बीच में केवल H बैठता है। W और G के बीच में केवल S बैठता है। B पंक्ति के दाएं सिरे पर बैठता है। पंक्ति के बाएं सिरे पर कौन बैठता है?

- Ans
- 1. S
 - 2. R
 - 3. Z
 - 4. W

Question ID : 26433092598

Status : Answered

Chosen Option : 2

Q.19 यदि '+' का अर्थ है '÷', '-' का अर्थ है '.', '·' का अर्थ है '×', और '×' का अर्थ है '+', तो निम्नलिखित में से कौन-सा अभिव्यक्ति का मान होगा?
 $32 \div 64 + 8 - 5 \times 36$

- Ans
- 1. 30
 - 2. 38
 - 3. 28
 - 4. 32

Question ID : 264330114189

Status : Answered

Chosen Option : 3

Q.20 उस विकल्प का चयन कीजिए जो तीसरे शब्द से उसी प्रकार संबंधित है जिस प्रकार दूसरा शब्द पहले शब्द से संबंधित है। (शब्दों को अर्थपूर्ण शब्दों के रूप में मानना है और उन्हें शब्द में अक्षरों/व्यंजनों/स्वरों की संख्या के आधार पर एक-दूसरे से संबंधित नहीं करना है।)

श्रमिक : कुदाल :: मूर्तिकार : ?

- Ans
- 1. छेनी
 - 2. तलवार
 - 3. कलम
 - 4. कुल्हाड़ी

Question ID : 26433068054

Status : Answered

Chosen Option : 1

Section : Part-B-General Knowledge and General awareness

Q.1 बड़े बांधों के निर्माण से वनस्पति कैसे प्रभावित होती है?

- Ans
- 1. पौधे नाइट्रोजन-यौगिकीकरण जीवाणु उत्पन्न करने के लिए ग्रंथियां बना लेते हैं।
 - 2. वायुजीवी परिस्थितियों में वनस्पति ऑक्सीजन उत्पन्न करती है।
 - 3. निम्न वनस्पति अवायवीय परिस्थितियों में सड़ जाती है और बड़ी मात्रा में मीथेन उत्पन्न करती है, जो एक ग्रीन हाउस गैस भी है।
 - 4. कवकों की वृद्धि बहुत अधिक बढ़ जाती है।

Question ID : 26433087838

Status : Answered

Chosen Option : 1

Q.2 _____ का संक्षिप्त नाम NITI (नीति) है।

- Ans
- 1. National Institution for Transforming India (नेशनल इंस्टीट्यूशन फॉर ट्रांसफॉर्मिंग इंडिया)
 - 2. National Institution for Transferring India (नेशनल इंस्टीट्यूशन फॉर ट्रांसफरिंग इंडिया)
 - 3. National Invention for Transforming India (नेशनल इन्वेंशन फॉर ट्रांसफॉर्मिंग इंडिया)
 - 4. National Institution for Telecommunication India (नेशनल इंस्टीट्यूशन फॉर टेलिकम्यूनिकेशन इंडिया)

Question ID : 264330115374

Status : Answered

Chosen Option : 3

Q.3 GNP का पूर्ण रूप क्या है?

- Ans
- 1. gross net product (ग्रॉस नेट प्रोडक्ट)
 - 2. gross null product (ग्रॉस नल प्रोडक्ट)
 - 3. gross negligence product (ग्रॉस नेग्लिजेंस प्रोडक्ट)
 - 4. gross national product (ग्रॉस नेशनल प्रोडक्ट)

Question ID : 264330115352

Status : Answered

Chosen Option : 1

Q.4 गायसुद्दीन बलबन ने निम्नलिखित में से किस काल में भारत में शासन किया था?

Ans 1. 1266-1287

2. 1206-1210

3. 1235-1265

4. 1211-1240

Question ID : 264330115446

Status : Answered

Chosen Option : 2

Q.5 वर्गों में बैठे हुए खो-खो खिलाड़ी क्या कहलाते हैं?

Ans 1. रनर

2. एक्टिव चेसर

3. चेसर

4. ब्लॉकर्स

Question ID : 26433092333

Status : Answered

Chosen Option : 2

Q.6 जून 2022 में, इंडिया इंटरनेशनल सेंटर (IIC) के नए अध्यक्ष के रूप में पदभार किसने संभाला?

Ans 1. कमलादेवी चट्टोपाध्याय

2. श्याम सरन

3. करन सिंह

4. नरिंदर नाथ वोहरा

Question ID : 264330115055

Status : Answered

Chosen Option : 4

Q.7 निम्नलिखित में से कौन मोहिनीअट्टम से संबंधित है?

Ans 1. रतन थियम

2. शांति दवे

3. कनक रेले

4. मंजीत बावा

Question ID : 264330115895

Status : Answered

Chosen Option : 2

Q.8 खेले इंडिया यूथ गेम्स में आयु वर्ग की किन दो श्रेणियों पर विचार किया गया है?

- Ans
- 1. 14 के नीचे और 21 के नीचे
 - 2. 17 के नीचे और 25 के नीचे
 - 3. 17 के नीचे और 14 के नीचे
 - 4. 17 के नीचे और 21 के नीचे

Question ID : 264330115960

Status : Answered

Chosen Option : 4

Q.9 किसी राज्य में मंत्रिपरिषद की नियुक्ति _____ की सलाह पर की जाती है।

- Ans
- 1. राज्यपाल
 - 2. राष्ट्रपति
 - 3. उच्च न्यायालय के न्यायाधीश
 - 4. मुख्यमंत्री

Question ID : 26433089188

Status : Answered

Chosen Option : 2

Q.10 केलुचरण महापात्र किस शास्त्रीय नृत्य शैली से संबंधित थे?

- Ans
- 1. कथकली
 - 2. ओडिसी
 - 3. मणिपुरी
 - 4. सत्रीया

Question ID : 26433072928

Status : Answered

Chosen Option : 3

Q.11 निम्नलिखित में से कौन-सी द्वितीयक क्षेत्र गतिविधि है?

- Ans
- 1. खनन
 - 2. उत्खनन
 - 3. विनिर्माण
 - 4. वानिकी

Question ID : 264330116093

Status : Answered

Chosen Option : 2

Q.12 भारत के निम्नलिखित में से किस केंद्रीय मंत्री ने नवंबर 2022 में जम्मू-कश्मीर के कटरा में आयोजित हुए ई-गवर्नेंस पर 25वें राष्ट्रीय सम्मेलन (NCeG) का उद्घाटन किया?

- Ans
- 1. जितेन्द्र सिंह
 - 2. प्रह्लाद जोशी
 - 3. अर्जुन मुंडा
 - 4. पीयूष गोयल

Question ID : 264330114908
Status : Answered
Chosen Option : 1

Q.13 सतलुज नदी घाटी में जल विद्युत उत्पादन और सिंचाई के लिए कौन सी परियोजना बनाई गई है?

- Ans
- 1. नागार्जुन परियोजना
 - 2. हीराकुंड परियोजना
 - 3. भाखड़ा नांगल परियोजना
 - 4. सरदार सरोवर बांध

Question ID : 26433091496
Status : Answered
Chosen Option : 1

Q.14 निम्नलिखित में से कौन सा त्यौहार केरल में राजा महाबली की याद में मनाया जाता है?

- Ans
- 1. विशु
 - 2. पुथंडो
 - 3. उगादी
 - 4. ओणम

Question ID : 264330115094
Status : Answered
Chosen Option : 4

Q.15 असहयोग-खिलाफत आंदोलन जनवरी _____ में शुरू हुआ।

- Ans
- 1. 1928
 - 2. 1921
 - 3. 1911
 - 4. 1925

Question ID : 26433089899
Status : Answered
Chosen Option : 2

Q.16 मूल अधिकारों को किस देश के संविधान से लिया गया था?

- Ans
- 1. जर्मनी
 - 2. संयुक्त राज्य अमेरिका
 - 3. दक्षिण अफ्रीका
 - 4. यूनाइटेड किंगडम

Question ID : 26433089957

Status : Answered

Chosen Option : 4

Q.17 जब सरकार कानूनी रूप से खाद्य उत्पादकों को विशेष खाद्य पदार्थों या खाद्य पदार्थों की कुछ विशिष्ट श्रेणियों में अतिरिक्त पोषक तत्व मिलाने के लिए बाध्य करती है, तो इसे _____ कहा जाता है।

- Ans
- 1. खाद्य सुरक्षा
 - 2. खाद्य मिलावट
 - 3. खाद्य सुदृढीकरण
 - 4. खाद्य पैकेजिंग

Question ID : 264330115266

Status : Answered

Chosen Option : 1

Q.18 डॉक्टर किस तकनीक का प्रयोग उनसे हजारों किलोमीटर की दूरी पर बैठे मरीजों को सलाह देने के लिए करते हैं?

- Ans
- 1. टेली-पोर्टिंग
 - 2. टेली-कॉमर्स
 - 3. टेली-सेलिंग
 - 4. टेली-मेडिसिन

Question ID : 264330115599

Status : Answered

Chosen Option : 1

Q.19 निम्नलिखित में से किसने सितंबर 2022 में "भारत जोड़ो यात्रा" की शुरुआत की?

- Ans
- 1. अरविंद केजरीवाल
 - 2. अमित शाह
 - 3. राहुल गांधी
 - 4. अकबरुद्दीन औवैसी

Question ID : 264330114889

Status : Answered

Chosen Option : 3

Q.20 तत्कालीन कृषि मंत्री _____, हरित क्रांति के तहत भारत में नई कृषि प्रौद्योगिकी लाने वाले एक प्रमुख व्यक्ति थे।

- Ans
- 1. एमएस स्वामीनाथन
 - 2. एमवी राव
 - 3. सी सुब्रमण्यम
 - 4. बेंजामिन पीरी पाल

Question ID : 26433054804

Status : Answered

Chosen Option : 1

Section : Part-C-Elementary Mathematics

Q.1 P एक काम को 15 दिनों में पूरा कर सकता है, जबकि Q इसे 10 दिनों में पूरा कर सकता है। यदि वे P से शुरू करके एकांतर दिनों में (बारी बारी से) काम करते हैं, तो काम कितने दिनों में पूरा हो जाएगा?

- Ans
- 1. 11
 - 2. 14
 - 3. 13
 - 4. 12

Question ID : 26433075798

Status : Answered

Chosen Option : 4

Q.2 एक नाव में यात्रा करने वाले 10 श्रमिकों के औसत वजन में 2.8 kg की वृद्धि होती है, जब एक श्रमिक, जिसका वजन 58 kg है, को एक नए श्रमिक द्वारा प्रतिस्थापित किया जाता है। नए श्रमिक का वजन ज्ञात कीजिए।

- Ans
- 1. 68 kg
 - 2. 86 kg
 - 3. 82 kg
 - 4. 84 kg

Question ID : 26433081006

Status : Answered

Chosen Option : 2

Q.3 रेणु ने दो घड़ियाँ खरीदी और उनमें से प्रत्येक को समान कीमत पर खरीदा और उनमें से एक को 20% के लाभ पर और दूसरी को 24.2% के लाभ पर बेच दिया। यदि उनके विक्रय मूल्यों के बीच का अंतर ₹189 है, तो प्रत्येक घड़ी का क्रय मूल्य क्या है?

- Ans
- 1. ₹4,500
 - 2. ₹8,123
 - 3. ₹6,120
 - 4. ₹7,640

Question ID : 26433080019

Status : Answered

Chosen Option : 1

Q.4 एक कस्बे की वर्तमान जनसंख्या 95,000 है। जनसंख्या में पहले वर्ष में 15% की वृद्धि, दूसरे वर्ष में 20% की वृद्धि और तीसरे वर्ष में 12% की कमी होती है। तीन वर्ष बाद कस्बे की जनसंख्या ज्ञात कीजिए।

- Ans
- 1. 1,16,568
 - 2. 1,16,368
 - 3. 1,15,368
 - 4. 1,15,568

Question ID : 26433064990

Status : Answered

Chosen Option : 3

Q.5 2021 में, एक नगर में जून माह में 30% लोगों को, जुलाई माह में शेष में से 50% को और अगस्त में शेष में से 20% लोगों को कोविड-19 के टीके लगाए गए। फिर भी 84000 लोग टीकाकरण से वंचित रहे। नगर की जनसंख्या ज्ञात कीजिए।(नगर में सभी टीकाकरण के योग्य हैं)

- Ans
- 1. 3.5 लाख
 - 2. 3 लाख
 - 3. 3.10 लाख
 - 4. 4 लाख

Question ID : 26433080158

Status : Answered

Chosen Option : 2

Q.6 एक व्यापारी अंकित मूल्य पर 20% की छूट प्रदान करता है। वह नकद भुगतान पर कम की हुई कीमत पर 10% की और अधिक छूट प्रदान करता है। ₹5,000 अंकित मूल्य वाली वस्तु के लिए ग्राहक को नकद में क्या भुगतान करना होगा?

- Ans
- 1. ₹4,800
 - 2. ₹4,000
 - 3. ₹4,200
 - 4. ₹3,600

Question ID : 26433080223

Status : Answered

Chosen Option : 4

Q.7 1 लीटर, 750 मिलीलीटर और 650 मिलीलीटर की दूध की तीन बोटलें हैं जिनमें दूध का प्रतिशत क्रमशः 45%, 50% और 60% है, को समान पात्र में एक साथ खाली किया जाता है। मिश्रण में दूध का प्रतिशत कितना होगा?

- Ans
- 1. 52.625%
 - 2. 50.625%
 - 3. 55.625%
 - 4. 56.225%

Question ID : 26433081704

Status : Answered

Chosen Option : 2

Q.8 एक पुलिस अधिकारी एक चोर का पीछा करता है जो उससे 800 मीटर की दूरी पर है। यदि वे क्रमशः 8 km/h और 7 km/h की चाल से दौड़ते हैं, तो चोर को पकड़ने के लिए पुलिस अधिकारी कितनी दूरी (मीटर में) दौड़ता है?

- Ans
- 1. 6400
 - 2. 4800
 - 3. 4000
 - 4. 5600

Question ID : 26433075814

Status : Answered

Chosen Option : 1

Q.9 एक साल पहले, राम की आय Rs.20,000 प्रति माह थी और व्यय Rs.16,000 प्रति माह था। अब यदि उसकी आय में 10% की वृद्धि और व्यय में 15% की वृद्धि हुई है, तो प्रति माह उसकी बचत में शुद्ध परिवर्तन कितना होगा?

- Ans
- 1. Rs.500 की वृद्धि
 - 2. Rs.500 की कमी
 - 3. Rs.400 की वृद्धि
 - 4. Rs.400 की कमी

Question ID : 26433071304

Status : Answered

Chosen Option : 4

Q.10 0.124 और 1.0204 के गुणनफल में दशमलव बिंदु के बाद कितने अंक होंगे?

- Ans
- 1. 8
 - 2. 5
 - 3. 6
 - 4. 7

Question ID : 26433082354

Status : Answered

Chosen Option : 4

Q.11 एक डीलर अपने माल पर उसके क्रय मूल्य से 30% अधिक मूल्य अंकित करता है। अपने माल को न लाभ न हानि के आधार पर बेचने के लिए, उसे किस छूट प्रतिशत की अनुमति देनी चाहिए (2 दशमलव स्थानों तक सही)?

- Ans
- 1. 25.25%
 - 2. 12.28%
 - 3. 23.08%
 - 4. 28.08%

Question ID : 26433083043

Status : Answered

Chosen Option : 3

Q.12 $\frac{(143 \div 13 \times k - 3 \times 3)}{(6^2 - 7 \times 5 + k^2)} = 1$ है तो K का मान क्या हो सकता है?

- Ans
- 1. 1
 - 2. 4
 - 3. 3
 - 4. 2

Question ID : 26433082953

Status : Answered

Chosen Option : 1

Q.13 एक पुलिस वाला एक चोर को 120 m की दूरी पर देखता है। वह उस चोर का पीछा करना शुरू कर देता है जो 6 m/sec की चाल से दौड़ रहा है। पुलिस वाला 8 m/sec की चाल से उसका पीछा कर रहा है। पुलिस से पकड़े जाने से पहले चोर द्वारा तय की गई दूरी ज्ञात कीजिए।

- Ans
- 1. 180 m
 - 2. 360 m
 - 3. 240 m
 - 4. 320 m

Question ID : 26433075953

Status : Answered

Chosen Option : 3

Q.14 6, 10 और 12 का चतुर्थानुपाती ज्ञात करें।

- Ans
- 1. 20
 - 2. 28
 - 3. 16
 - 4. 24

Question ID : 26433075102

Status : Answered

Chosen Option : 1

Q.15 एक कपड़ा व्यापारी ने ₹520 प्रत्येक की कीमत पर 42 कमीजें खरीदीं। उसने उनमें से प्रत्येक को ₹548 में बेच दिया। प्रत्येक कमीज पर उसका प्रतिशत लाभ ज्ञात कीजिए। (दो दशमलव स्थानों तक पूर्णांकित)

- Ans
- 1. 2.63%
 - 2. 3.34%
 - 3. 6.42%
 - 4. 5.38%

Question ID : 26433080018

Status : Answered

Chosen Option : 2

Q.16 25 डॉक्टर 5 घंटे में 75 रोगियों की जाँच कर सकते हैं। यदि पाँच डॉक्टर सेवा छोड़ देते हैं, तो 6 घंटे में कितने रोगियों की जाँच की जा सकती है?

- Ans
- 1. 72
 - 2. 70
 - 3. 76
 - 4. 74

Question ID : 26433080185

Status : Answered

Chosen Option : 3

Q.17 एक त्रिभुज जिसका आधार और संगत ऊँचाई क्रमशः 3.2 m और 75 cm हैं, उसका क्षेत्रफल _____ है।

- Ans
- 1. 3 m^2
 - 2. 2.5 m^2
 - 3. 2 m^2
 - 4. 1.2 m^2

Question ID : 26433075508

Status : Answered

Chosen Option : 4

Q.18 एक गोले पर किन्हीं दो बिंदुओं के बीच की सर्वाधिक दूरी 6 इकाई है। गोले का आयतन क्या है?

- Ans
- 1. 18π घन इकाई
 - 2. 24π घन इकाई
 - 3. 36π घन इकाई
 - 4. 64π घन इकाई

Question ID : 26433071369

Status : Answered

Chosen Option : 3

Q.19 एक निवेश योजना में चक्रवृद्धि ब्याज की एक निश्चित दर पर ₹1,20,000 दो वर्षों में, ₹1,50,528 हो जाते हैं, जब ब्याज की गणना वार्षिक चक्रवृद्धि आधार पर होती है। समान योजना में, ₹P की धनराशि का निवेश किया जाता है और यह तीन वर्षों में ₹3,51,232 हो जाती है। P का मान क्या है?

- Ans 1. 2,50,000
 2. 3,00,000
 3. 2,25,000
 4. 2,75,000

Question ID : 26433085460

Status : Answered

Chosen Option : 1

Q.20 P और Q मिलकर एक कार्य को 20 दिनों में पूरा कर सकते हैं। Q और R मिलकर इसे 30 दिनों में पूरा कर सकते हैं। यदि P, R से दोगुना कुशल कामगार है, तो Q अकेला कार्य को कितने दिनों में पूरा कर सकता है?

- Ans 1. 50
 2. 25
 3. 10
 4. 60

Question ID : 26433083052

Status : Answered

Chosen Option : 4

Section : Part-D-English

Q.1 Select the most appropriate synonym of the underlined word.

I believe you are impartial while making decisions.

- Ans 1. Good
 2. Offensive
 3. Biased
 4. Fair

Question ID : 26433088999

Status : Not Answered

Chosen Option : --

Q.2 Select the most appropriate ANTONYM of the word given in the brackets to fill in the blank and complete the sentence.

The best way to motivate someone for their hard work is to _____ (criticise) them for their little accomplishments.

- Ans 1. control
 2. censure
 3. praise
 4. blame

Question ID : 26433089840

Status : Not Answered

Chosen Option : --

Q.3 Select the most appropriate option to fill in the blanks and make the sentence meaningful.

She was _____ for the wrong _____ of the past.

- Ans
- 1. find; did
 - 2. fined; deeds
 - 3. fined; duds
 - 4. find; deeds

Question ID : 26433092096

Status : Not Answered

Chosen Option : --

Q.4 Select the most appropriate synonym for the underlined word in the given sentence.

When the owner stopped paying the workers, a lot of them went rogue.

- Ans
- 1. naughty
 - 2. reformer
 - 3. ruffian
 - 4. reconnoitre

Question ID : 26433072075

Status : Not Answered

Chosen Option : --

Q.5 Identify the MISSPELT word in the following sentence.

Since there are numerous topics of discussions with varying requirements, specific disciplines and age range require distinct interactive learning strategies.

- Ans
- 1. disciplines
 - 2. discussions
 - 3. interactive
 - 4. requirements

Question ID : 26433073663

Status : Not Answered

Chosen Option : --

Q.6 Select the most appropriate ANTONYM of the underlined word in the given sentence.

The causes of war in the country are very pathetic.

- Ans
- 1. factors
 - 2. consequences
 - 3. occasions
 - 4. creations

Question ID : 26433055485

Status : Not Answered

Chosen Option : --

Q.7 Select the most appropriate idiom that can substitute the underlined segment in the given sentence.

He has got this notorious reputation of teasing and making fun of people.

- Ans
- 1. pulling oneself together
 - 2. pulling someone's leg
 - 3. cutting corners
 - 4. falling prey

Question ID : 264330100894
Status : Not Answered
Chosen Option : --

Q.8 The following sentence has been split into four segments. Identify the segment that contains a grammatical error.

What does kangaroos / eat? / They are / quite strong.

- Ans
- 1. eat
 - 2. What does kangaroos
 - 3. quite strong
 - 4. They are

Question ID : 264330108881
Status : Not Answered
Chosen Option : --

Q.9 Select the most appropriate option that can substitute the underlined segment in the given sentence. If there is no need to substitute it, select 'No substitution'.

This trailer gives a sneak peak of the magnum opus that has been created by the southern film industry.

- Ans
- 1. give a sneak peak of the magnum opus
 - 2. No substitution
 - 3. gives a sneak peek of the magnum opus
 - 4. gives a sneak peak on the magnum opus

Question ID : 26433091766
Status : Not Answered
Chosen Option : --

Q.10 Select the most appropriate ANTONYM of the given word.

Pure

- Ans
- 1. Humble
 - 2. Virtuous
 - 3. Foolish
 - 4. Tainted

Question ID : 26433072202
Status : Not Answered
Chosen Option : --

Q.11 Select the most appropriate option to fill in the blank.

Though technology has advanced, environmental problems still have a drastic _____ on mankind.

- Ans
- 1. impact
 - 2. assume
 - 3. purpose
 - 4. result

Question ID : 26433073409
Status : Not Answered
Chosen Option : --

Q.12 Select the most appropriate synonym of the given word.

Vacate

- Ans
- 1. Strain
 - 2. Fabricate
 - 3. Remember
 - 4. Depart

Question ID : 26433073459
Status : Not Answered
Chosen Option : --

Q.13 Select the MISSPELT word.

- Ans
- 1. Avoidance
 - 2. Correction
 - 3. Preference
 - 4. Toleranse

Question ID : 26433086337
Status : Not Answered
Chosen Option : --

Q.14 Select the most appropriate option that can substitute the underlined segment in the given sentence.

The advocate who appeared to the accused was least hopeful of the case.

- Ans
- 1. appeared by the accused
 - 2. appeared on the accused
 - 3. appeared for the accused
 - 4. appeared of the accused

Question ID : 264330103765
Status : Not Answered
Chosen Option : --

Q.15 Select the most appropriate meaning of the underlined idiom that can be substituted in the following sentence.

He is not a great leader but, he has the gift of gab.

- Ans 1. gift of speaking
 2. gift of a leader
 3. gift of sleeping
 4. gift to gamble

Question ID : 26433072238

Status : Not Answered

Chosen Option : --

Comprehension:

In the following passage, some words have been deleted. Read the passage carefully and select the most appropriate option to fill in each blank.

Buck (1)_____ over against the sled, (2)_____, sobbing for breath, helpless. This was Spitz's opportunity. He sprang upon Buck, and twice his teeth sank into his (3)_____ foe and ripped and tore the flesh to the bone. Then Francois' lash (4)_____, and Buck had the satisfaction of watching Spitz receive the worst whipping as yet (5)_____ to any of the team.

SubQuestion No : 16

Q.16 Select the most appropriate option to fill in blank number 1.

- Ans 1. staggered
 2. strutted
 3. pranced
 4. swaggered

Question ID : 26433065192

Status : Not Answered

Chosen Option : --

Comprehension:

In the following passage, some words have been deleted. Read the passage carefully and select the most appropriate option to fill in each blank.

Buck (1)_____ over against the sled, (2)_____, sobbing for breath, helpless. This was Spitz's opportunity. He sprang upon Buck, and twice his teeth sank into his (3)_____ foe and ripped and tore the flesh to the bone. Then Francois' lash (4)_____, and Buck had the satisfaction of watching Spitz receive the worst whipping as yet (5)_____ to any of the team.

SubQuestion No : 17

Q.17 Select the most appropriate option to fill in blank number 2.

- Ans 1. exterminated
 2. eloquent
 3. exhausted
 4. excited

Question ID : 26433065193

Status : Not Answered

Chosen Option : --

Comprehension:

In the following passage, some words have been deleted. Read the passage carefully and select the most appropriate option to fill in each blank.

Buck (1)_____ over against the sled, (2)_____, sobbing for breath, helpless. This was Spitz's opportunity. He sprang upon Buck, and twice his teeth sank into his (3)_____ foe and ripped and tore the flesh to the bone. Then Francois' lash (4)_____, and Buck had the satisfaction of watching Spitz receive the worst whipping as yet (5)_____ to any of the team.

SubQuestion No : 18

Q.18 Select the most appropriate option to fill in blank number 3.

- Ans 1. undetermined
 2. unresisting
 3. unsatiable
 4. unquenchable

Question ID : 26433065194

Status : Not Answered

Chosen Option : --

Comprehension:

In the following passage, some words have been deleted. Read the passage carefully and select the most appropriate option to fill in each blank.

Buck (1)_____ over against the sled, (2)_____, sobbing for breath, helpless. This was Spitz's opportunity. He sprang upon Buck, and twice his teeth sank into his (3)_____ foe and ripped and tore the flesh to the bone. Then Francois' lash (4)_____, and Buck had the satisfaction of watching Spitz receive the worst whipping as yet (5)_____ to any of the team.

SubQuestion No : 19

Q.19 Select the most appropriate option to fill in blank number 4.

- Ans 1. demeaned
 2. defended
 3. deteriorated
 4. descended

Question ID : 26433065195

Status : Not Answered

Chosen Option : --

Comprehension:

In the following passage, some words have been deleted. Read the passage carefully and select the most appropriate option to fill in each blank.

Buck (1)_____ over against the sled, (2)_____, sobbing for breath, helpless. This was Spitz's opportunity. He sprang upon Buck, and twice his teeth sank into his (3)_____ foe and ripped and tore the flesh to the bone. Then Francois' lash (4)_____, and Buck had the satisfaction of watching Spitz receive the worst whipping as yet (5)_____ to any of the team.

SubQuestion No : 20

Q.20 Select the most appropriate option to fill in blank number 5.

- Ans 1. administered
 2. adjudated
 3. automated
 4. advertised

Question ID : 26433065196

Status : Not Answered

Chosen Option : --

Section : Part-D-Hindi

Q.1 विकल्पों में दिए गए किस शब्द के साथ कारक चिह्न जुड़ा हुआ है?

- Ans 1. पड़ता
 2. कर्मों
 3. फल
 4. सबको

Question ID : 26433085035

Status : Answered

Chosen Option : 4

Q.2 'गुड़ गन्ने के रसे से बनता है।' इस वाक्य के किस शब्द में वर्तनीगत अशुद्धि है?

- Ans 1. बनता
 2. रसे
 3. गन्ने
 4. गुड़

Question ID : 26433085064

Status : Answered

Chosen Option : 2

Q.3 'जो पर के अधीन है' वाक्यांश के लिए एक शब्द _____ है।

- Ans
- 1. पराधीन
 - 2. पहलवान
 - 3. पारिश्रमिक
 - 4. परोपकारी

Question ID : 26433062940

Status : Answered

Chosen Option : 1

Q.4 निम्नलिखित वाक्य के रिक्त स्थान में सबसे उपयुक्त मुहावरा क्या होगा?
'शिवाजी ने औरंगजेब की _____ थी।'

- Ans
- 1. कमर ठोक दी
 - 2. कमर बांध दी
 - 3. कमर तोड़ दी
 - 4. कमर टिका दी

Question ID : 26433066728

Status : Answered

Chosen Option : 3

Q.5 'नेताजी की मृत्यु क्षोभजनक है।' इस वाक्य में रेखांकित शब्द के स्थान पर निम्न में से कौन सा शब्द उपयुक्त होगा?

- Ans
- 1. दुःखद
 - 2. सुखद
 - 3. सहज
 - 4. निराशा

Question ID : 26433085058

Status : Answered

Chosen Option : 1

Q.6 'समुचित स्वच्छता स्वास्थ्य के लिए आवश्यक है।' इस वाक्य के किस शब्द में वर्तनीगत अशुद्धि है?

- Ans
- 1. स्वास्थ्य
 - 2. स्वच्छता
 - 3. समुचित
 - 4. आवश्यक

Question ID : 26433085067

Status : Answered

Chosen Option : 1

Q.7 निम्न में से कौन-सा शब्द 'पहाड़' शब्द का पर्यायवाची शब्द नहीं है?

- Ans
- 1. अमल
 - 2. पर्वत
 - 3. गिरि
 - 4. भूधर

Question ID : 26433067079

Status : Answered

Chosen Option : 1

Q.8 'मोहन की उम्र के अनुसार इतना भोजन पर्याप्त है।' इस वाक्य में प्रयुक्त 'पर्याप्त' शब्द का अर्थ क्या है?

- Ans
- 1. आवश्यकता से कम
 - 2. आवश्यकता से अधिक
 - 3. आवश्यक
 - 4. उपयुक्त

Question ID : 26433080918

Status : Answered

Chosen Option : 3

Q.9 'अंग-अंग _____ होना'

निम्न में से उपयुक्त शब्द द्वारा उपरोक्त मुहावरे में रिक्त स्थान की पूर्ति कीजिए।

- Ans
- 1. ढीला
 - 2. चोटिल
 - 3. बोझिल
 - 4. चमकदार

Question ID : 26433069691

Status : Answered

Chosen Option : 1

Q.10 निम्नलिखित में से सर्वनाम सम्बन्धी अशुद्धि युक्त वाक्य का चयन कीजिए।

- Ans
- 1. मेरे में अनंत शक्ति है।
 - 2. हमारे रीति-रिवाज आपसे भिन्न हैं।
 - 3. मेरे लिए तुम क्या लाये हो?
 - 4. यह उनका आदेश है।

Question ID : 26433063001

Status : Answered

Chosen Option : 1

Q.11 मिश्र वाक्य - 'यह वही लड़का है जिससे मैं मिल चुका हूँ।' निम्नलिखित विकल्पों में से इस वाक्य के लिए कौन सा एक उचित सरल वाक्य होगा?

- Ans
- 1. यह लड़का है जिससे मिल चुका हूँ।
 - 2. वही लड़का है जिससे मैं मिल चुका हूँ।
 - 3. इस लड़के से मैं मिल चुका हूँ।
 - 4. लड़का है जिससे मैं मिल चुका हूँ।

Question ID : 26433062439
Status : Answered
Chosen Option : 3

Q.12 'रक्त' शब्द के लिए समानार्थी शब्द नहीं है-

- Ans
- 1. आनन
 - 2. लहू
 - 3. रुधिर
 - 4. लोहित

Question ID : 26433085083
Status : Answered
Chosen Option : 4

Q.13 निम्न वाक्य में रेखांकित अंश के स्थान पर सबसे उपयुक्त विकल्प कौन-सा होगा?
हमें अपने माता-पिता की शुश्रूषा करनी चाहिए।

- Ans
- 1. सेवा
 - 2. दिनचर्या
 - 3. नौकरी
 - 4. बात-चीत

Question ID : 26433072586
Status : Answered
Chosen Option : 1

Q.14 'जो छूने योग्य न हो' वाक्यांश के लिए इनमें से सही शब्द क्या है?

- Ans
- 1. अछूत
 - 2. अमर
 - 3. अचूक
 - 4. अजर

Question ID : 26433070140
Status : Answered
Chosen Option : 1

Q.15 निम्न में से किस वाक्य में 'अंचल' के सही अनेकार्थी शब्द का प्रयोग हुआ है?

- Ans 1. इस प्रदेश में हरियाली अधिक है।
 2. अंकुश के माध्यम से हाथी को नियंत्रित किया गया।
 3. मैंने उस नाटक का प्रथम अंक पढ़ लिया।
 4. शरीर के सभी अंग शिथिल हो गए।

Question ID : 26433085141

Status : Answered

Chosen Option : 2

Comprehension:

निम्नलिखित गद्यांश में कुछ शब्दों को हटा दिया गया है। दिए गए विकल्पों की सहायता से रिक्त स्थानों की पूर्ति कीजिए। प्रत्येक संख्या के लिए सबसे उपयुक्त विकल्प का चयन कीजिए।

1. _____ की खोज के साथ एक नए युग की शुरुआत हुई। अब आदमी अपने 2. _____ को लिखकर रखने लगा, जिससे वह 'सभ्य' कहा जाने लगा। आदमी के लिखना आरंभ करने से ही 3. _____ का आरंभ हुआ और एक पीढ़ी के विचार दूसरी पीढ़ी तक पहुंचने लगे। इसी के साथ 4. _____ गति तेज़ हुई। इस प्रकार एक नए युग की 5. _____ हुई।

SubQuestion No : 16

Q.16 रिक्त स्थान 1 की पूर्ति के लिए सबसे उपयुक्त विकल्प का चयन करें।

- Ans 1. छंद
 2. अक्षर
 3. शब्द
 4. तकनीकी

Question ID : 264330110945

Status : Answered

Chosen Option : 2

Comprehension:

निम्नलिखित गद्यांश में कुछ शब्दों को हटा दिया गया है। दिए गए विकल्पों की सहायता से रिक्त स्थानों की पूर्ति कीजिए। प्रत्येक संख्या के लिए सबसे उपयुक्त विकल्प का चयन कीजिए।

1. _____ की खोज के साथ एक नए युग की शुरुआत हुई। अब आदमी अपने 2. _____ को लिखकर रखने लगा, जिससे वह 'सभ्य' कहा जाने लगा। आदमी के लिखना आरंभ करने से ही 3. _____ का आरंभ हुआ और एक पीढ़ी के विचार दूसरी पीढ़ी तक पहुंचने लगे। इसी के साथ 4. _____ गति तेज़ हुई। इस प्रकार एक नए युग की 5. _____ हुई।

SubQuestion No : 17

Q.17 रिक्त स्थान 2 की पूर्ति के लिए सबसे उपयुक्त विकल्प का चयन करें।

- Ans 1. हिसाब-किताब
 2. पढ़ाई-लिखाई
 3. लेखा-जोखा
 4. खेलना-कूदना

Question ID : 264330110946

Status : Answered

Chosen Option : 3

Comprehension:

निम्नलिखित गद्यांश में कुछ शब्दों को हटा दिया गया है। दिए गए विकल्पों की सहायता से रिक्त स्थानों की पूर्ति कीजिए। प्रत्येक संख्या के लिए सबसे उपयुक्त विकल्प का चयन कीजिए।

1. _____ की खोज के साथ एक नए युग की शुरुआत हुई। अब आदमी अपने 2. _____ को लिखकर रखने लगा, जिससे वह 'सभ्य' कहा जाने लगा। आदमी के लिखना आरंभ करने से ही 3. _____ का आरंभ हुआ और एक पीढ़ी के विचार दूसरी पीढ़ी तक पहुंचने लगे। इसी के साथ 4. _____ गति तेज़ हुई। इस प्रकार एक नए युग की 5. _____ हुई।

SubQuestion No : 18

Q.18 रिक्त स्थान 3 की पूर्ति के लिए सबसे उपयुक्त विकल्प का चयन करें।

- Ans
- 1. मराठी
 - 2. संस्कृत
 - 3. इतिहास
 - 4. अंग्रेजी

Question ID : 264330110947

Status : Answered

Chosen Option : 3

Comprehension:

निम्नलिखित गद्यांश में कुछ शब्दों को हटा दिया गया है। दिए गए विकल्पों की सहायता से रिक्त स्थानों की पूर्ति कीजिए। प्रत्येक संख्या के लिए सबसे उपयुक्त विकल्प का चयन कीजिए।

1. _____ की खोज के साथ एक नए युग की शुरुआत हुई। अब आदमी अपने 2. _____ को लिखकर रखने लगा, जिससे वह 'सभ्य' कहा जाने लगा। आदमी के लिखना आरंभ करने से ही 3. _____ का आरंभ हुआ और एक पीढ़ी के विचार दूसरी पीढ़ी तक पहुंचने लगे। इसी के साथ 4. _____ गति तेज़ हुई। इस प्रकार एक नए युग की 5. _____ हुई।

SubQuestion No : 19

Q.19 रिक्त स्थान 4 की पूर्ति के लिए सबसे उपयुक्त विकल्प का चयन करें।

- Ans
- 1. विकास की
 - 2. पतन की
 - 3. अधोमुख
 - 4. विनाश की

Question ID : 264330110948

Status : Answered

Chosen Option : 1

Comprehension:

निम्नलिखित गद्यांश में कुछ शब्दों को हटा दिया गया है। दिए गए विकल्पों की सहायता से रिक्त स्थानों की पूर्ति कीजिए। प्रत्येक संख्या के लिए सबसे उपयुक्त विकल्प का चयन कीजिए।

1. _____ की खोज के साथ एक नए युग की शुरुआत हुई। अब आदमी अपने 2. _____ को लिखकर रखने लगा, जिससे वह 'सभ्य' कहा जाने लगा। आदमी के लिखना आरंभ करने से ही 3. _____ का आरंभ हुआ और एक पीढ़ी के विचार दूसरी पीढ़ी तक पहुंचने लगे। इसी के साथ 4. _____ गति तेज़ हुई। इस प्रकार एक नए युग की 5. _____ हुई।

SubQuestion No : 20

Q.20 रिक्त स्थान 5 की पूर्ति के लिए सबसे उपयुक्त विकल्प का चयन करें।

Ans 1. अवशिष्ट

2. शुरुआत

3. शेष

4. अंत

Question ID : 264330110949

Status : Answered

Chosen Option : 2

KD Job Updates

Constable GD in CAPFs SSF Rifleman GD in Assam Rifles and Sepoy in NCB Examination 2022

Roll Number	KD Job Updates
Candidate Name	KD Job Updates
Venue Name	Purnodaya Mahila Mahavidyalaya
Exam Date	06/02/2023
Exam Time	2:30 PM - 3:30 PM
Subject	Constable GD Examination 2022

Section : Part-A-General Intelligence and Reasoning

Q.1 पाँच व्यक्ति - L, M, N, O और P, एक वृत्ताकार मेज के परितः बाहर की ओर मुख करके बैठे हैं। P, L के दाईं ओर ठीक बगल में बैठा है। M, P के दाईं ओर दूसरे स्थान पर बैठा है। N, P और M के ठीक बगल में बैठा है। L के बाईं ओर ठीक बगल में कौन बैठा है?

- Ans
- 1. M
 - 2. N
 - 3. O
 - 4. P

Question ID : 26433074609

Status : Answered

Chosen Option : 3

Q.2 निम्नलिखित में से कौन-सी संख्या दी गई श्रृंखला में प्रश्न-चिह्न (?) का स्थान लेगी?
45, 76, ?, 168, 229

- Ans
- 1. 217
 - 2. 107
 - 3. 171
 - 4. 117

Question ID : 26433068092

Status : Answered

Chosen Option : 4

Q.3 निम्नलिखित समीकरण में, कौन-सी गणितीय संक्रियाएं जब क्रमिक रूप से रखी जाए समीकरण को संतुलित करेंगी?
 $20 \times 4 \times 8 \times 10 \times 5$

- Ans
- 1. $\div \times > \times$
 - 2. $\times \div > \times$
 - 3. $\div \times < \times$
 - 4. $\div \div = \times$

Question ID : 26433085657

Status : Answered

Chosen Option : 3

Q.4 निम्नलिखित में से कौन-सा पद दी गई श्रृंखला में प्रश्न-चिह्न (?) के स्थान पर आएगा?
XZVU, UYST, ?, OWMR, LVJQ

- Ans
- 1. RYPS
 - 2. RXPS
 - 3. RZPS
 - 4. SXQS

Question ID : 26433068310
Status : Answered
Chosen Option : 2

Q.5 दिए गए विकल्पों में से उस संख्या का चयन कीजिए, जो निम्नलिखित श्रृंखला में प्रश्न-चिह्न (?) को प्रतिस्थापित कर सके।
77, 77, 79, 237, 241, ?

- Ans
- 1. 1520
 - 2. 1250
 - 3. 1502
 - 4. 1205

Question ID : 26433079005
Status : Answered
Chosen Option : 4

Q.6 तीन कथनों के बाद तीन निष्कर्ष I, II और III दिए गए हैं। कथनों को सत्य मानते हुए, भले ही वे सामान्य रूप से ज्ञात तथ्यों से भिन्न प्रतीत होते हों, निर्धारित करें कि कौन-सा/से निष्कर्ष कथनों का तार्किक रूप से अनुसरण करता है/करते हैं।

कथन:

सभी पुस्तकें प्लास्टिक हैं।

कुछ प्लास्टिक कप हैं।

सभी कप गिलास हैं।

निष्कर्ष:

I. कुछ प्लास्टिक पुस्तकें हैं।

II. सभी प्लास्टिक कप हैं।

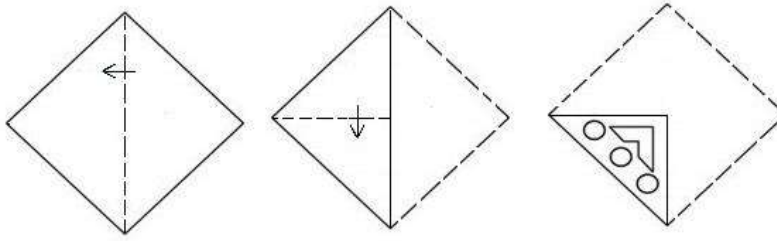
III. कुछ कप गिलास हैं।

- Ans
- 1. सभी निष्कर्ष अनुसरण करते हैं।
 - 2. निष्कर्ष II और III दोनों अनुसरण करते हैं।
 - 3. निष्कर्ष I और II दोनों अनुसरण करते हैं।
 - 4. निष्कर्ष I और III दोनों अनुसरण करते हैं।

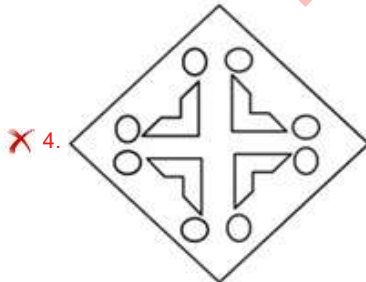
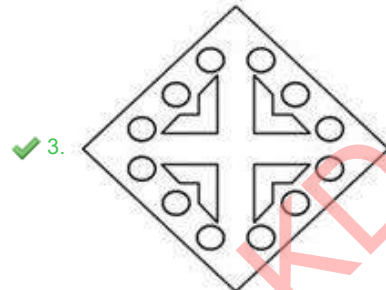
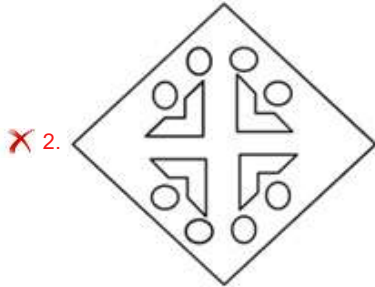
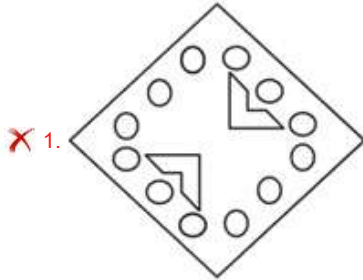
Question ID : 26433074638
Status : Answered
Chosen Option : 4

Q.7

जैसा कि नीचे दिखाया गया है, एक कागज को मोड़ा जाता है और काटा जाता है। खोलने पर यह कैसे दिखाई देगा?



Ans



Question ID : 26433082052

Status : Answered

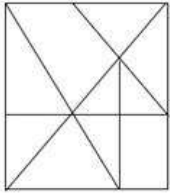
Chosen Option : 3

Q.8 A @ B का अर्थ है 'A, B की बहन है'।
 A & B का अर्थ है 'A, B का भाई है'।
 A # B का अर्थ है 'A, B की पत्नी है'।
 A ^ B का अर्थ है 'A, B की माता है'।
 A + B का अर्थ है 'A, B के पिता है'।
 यदि A & C + E ^ G # I & K + M @ O है, तो निम्नलिखित में से कौन-सा कथन सही नहीं है?

- Ans
- 1. M, K की पुत्री है।
 - 2. O, K की पुत्री है।
 - 3. K, O के पिता हैं।
 - 4. C, G के नाना है।

Question ID : 26433068954
 Status : Answered
 Chosen Option : 2

Q.9 वह विकल्प चित्र चुनिए, जो प्रस्तुत चित्र में अंतर्निहित है। (धुमाना अनुमन्य नहीं है)

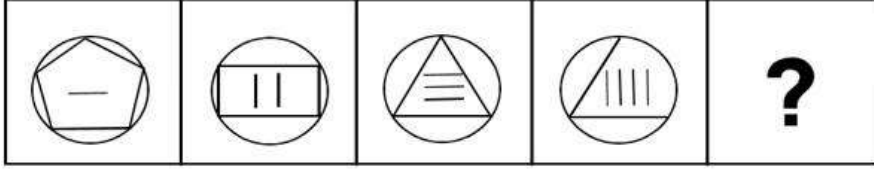


Ans

- 1.
- 2.
- 3.
- 4.


Question ID : 26433069345
 Status : Answered
 Chosen Option : 2

Q.10 दिए गए विकल्पों में से उस आकृति का चयन करें जो निम्नलिखित श्रृंखला में प्रश्नवाचक चिह्न (?) का स्थान ले सकती है।

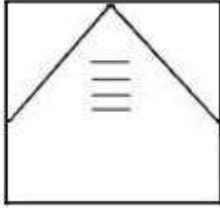


Ans

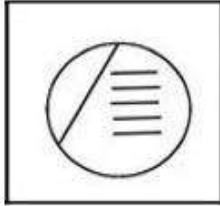
✗ 1.



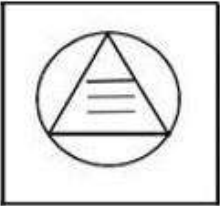
✗ 2.



✓ 3.



✗ 4.



KD Job Updates

Question ID : 26433080488

Status : Answered

Chosen Option : 3

Q.11 छह मित्र - K, L, M, N, S, और P, एक वृत्ताकार मेज के परितः मेज के केंद्र की ओर मुख करके बैठे हैं। P, S के बाईं ओर तीसरे स्थान पर है। K, S के बाईं ओर ठीक बगल में है। K और L एक दूसरे के सामने बैठे हैं। M, S के दाईं ओर ठीक बगल में बैठा है। M के सामने कौन बैठा है?

Ans ✗ 1. L

✓ 2. N

✗ 3. P

✗ 4. K

Question ID : 26433080432

Status : Answered

Chosen Option : 2

Q.12 उस विकल्प का चयन कीजिए जो तीसरे शब्द से उसी प्रकार संबंधित है जिस प्रकार दूसरा शब्द पहले शब्द से संबंधित है। (शब्दों को अर्थपूर्ण शब्दों के रूप में मानना है और उन्हें शब्द में अक्षरों/व्यंजनों/स्वरों की संख्या के आधार पर एक-दूसरे से संबंधित नहीं करना है।)
पेंटर : ब्रश :: डॉक्टर : ?

- Ans 1. स्टेथोस्कोप
 2. कोयला
 3. प्लास्टिक
 4. संयंत्र

Question ID : 26433057693

Status : Answered

Chosen Option : 1

Q.13 उस समुच्चय का चयन करें, जिसकी संख्याओं के बीच ठीक वही संबंध है, जो संबंध निम्नांकित समुच्चयों की संख्याओं में हैं।
(नोट: संख्याओं को उसके घटक अंकों में विभाजित किए बिना, पूर्ण संख्याओं पर ही गणितीय संक्रियाएँ की जानी चाहिए। जैसे 13 - मान लीजिए 13 पर गणितीय संक्रियाएँ जैसे कि 13 में जोड़ना/घटाना/गुणा करना आदि किया जा सकता है। 13 को 1 और 3 में तोड़कर और फिर 1 और 3 पर गणितीय संक्रियाएँ करने की अनुमति नहीं है।)
(5, 9, 450)
(7, 12, 840)

- Ans 1. (10, 13, 1350)
 2. (8, 12, 930)
 3. (7, 11, 760)
 4. (6, 9, 540)

Question ID : 26433076540

Status : Answered

Chosen Option : 4

Q.14 दर्पण को नीचे दिए गए चित्र के अनुसार MN पर रखे जाने पर दी गई आकृति

का दर्पण में निर्मित सही प्रतिबिंब चयनित कीजिए।

T p E J 4 2 d v c

M _____ N

- Ans 1. c v b S P L E q T
 2. L d E f t S q A c
 3. L b E l t S q A c
 4. L b E l t S q A c

Question ID : 26433080815

Status : Answered

Chosen Option : 3

Q.15 एक कूट भाषा में 'red ribbon' को 'cu du', 'apple is red' को 'nu mu cu', 'radish is white' को 'mu ku ru', 'eat radish' को 'ru pu' के रूप में कूटबद्ध किया जाता है। शब्द 'white' के लिए कूट क्या होगा?

- Ans
- 1. mu
 - 2. pu
 - 3. ru
 - 4. ku

Question ID : 26433082270
Status : Answered
Chosen Option : 4

Q.16 कौन-सा अक्षर-समूह दी गई शृंखला में प्रश्नचिह्न (?) के स्थान पर आकर शृंखला को पूर्ण करेगा?
USRP, OMLJ , IGFD , CAZX ?

- Ans
- 1. XUVT
 - 2. XVUS
 - 3. WUTR
 - 4. WVTS

Question ID : 26433068437
Status : Answered
Chosen Option : 3

Q.17 नीचे दिए गए समीकरण को गणितीय रूप से सही बनाने के लिए किन दो चिन्हों को परस्पर बदलना चाहिए?

$$49 + 16 \div 7 - 36 \times 16 = 92$$

- Ans
- 1. \times और +
 - 2. + और -
 - 3. + और \times
 - 4. + और +

Question ID : 264330117501
Status : Answered
Chosen Option : 1

Q.18 उस विकल्प का चयन करें जो पांचवें अक्षर-समूह से उसी प्रकार संबंधित है जिस प्रकार दूसरा अक्षर-समूह पहले अक्षर-समूह से संबंधित है और चौथा अक्षर-समूह तीसरे अक्षर-समूह से संबंधित है।
CLARITY : DMBSJUZ :: PRICE : QSJDF :: RAINBOW : ?

- Ans
- 1. SBCOJPX
 - 2. SXBJOCP
 - 3. SBJOCPX
 - 4. SJOCPXB

Question ID : 26433070323
Status : Answered
Chosen Option : 3

Q.19 एक निश्चित कूट भाषा में, 'HAUNT' को 'KVXIW' और 'BURNT' को 'EPUIW' लिखा जाता है। उसी कूट भाषा में 'THROW' को किस प्रकार लिखा जाएगा?

- Ans 1. WCUJZ
 2. ZDUDZ
 3. ZDURW
 4. WBUAZ

Question ID : 26433068144
Status : Answered
Chosen Option : 1

Q.20 किस विकल्प में निम्नलिखित शब्दों का वह क्रम दिया गया है, जिस क्रम में वे अंग्रेजी शब्दकोश में आते हैं?

- 1 heated
2 healed
3 heaped
4 hedge
5 helmet

- Ans 1. 2,1,3,4,5
 2. 3,4,1,2,5
 3. 3,2,1,4,5
 4. 2,3,1,4,5

Question ID : 26433069311
Status : Answered
Chosen Option : 4

Section : Part-B-General Knowledge and General awareness

Q.1 1944 में, विभिन्न उद्योगपति एक साथ जुड़े और भारत में एक नियोजित अर्थव्यवस्था स्थापित करने के लिए एक संयुक्त प्रस्ताव का मसौदा तैयार किया। यह _____ योजना के नाम से प्रसिद्ध है।

- Ans 1. बॉम्बे
 2. पंचवर्षीय
 3. औद्योगिक
 4. राष्ट्रीय

Question ID : 264330116133
Status : Answered
Chosen Option : 3

Q.2 प्राकृतिक गैस के ज्वलन पर कौन-सी गैस मुक्त होती है?

- Ans 1. कार्बन डाइऑक्साइड
 2. ओजोन
 3. हाइड्रोजन
 4. हाइड्रोजन सल्फाइड

Question ID : 26433087847
Status : Answered
Chosen Option : 1

Q.3 खेलो इंडिया यूथ गेम्स 2020 संस्करण का मेज़बान और विजेता राज्य _____ है।

- Ans
- 1. असम
 - 2. क्रमशः महाराष्ट्र और असम
 - 3. क्रमशः असम और महाराष्ट्र
 - 4. महाराष्ट्र

Question ID : 26433089929
Status : Answered
Chosen Option : 4

Q.4 जानकी प्रसाद का संबंध कथक के किस घराने से है?

- Ans
- 1. बनारस घराना
 - 2. लखनऊ घराना
 - 3. रायगढ़ घराना
 - 4. जयपुर घराना

Question ID : 26433072919
Status : Not Answered
Chosen Option : --

Q.5 क्षेत्रफल की दृष्टि से भारत का सबसे छोटा केंद्र शासित प्रदेश कौन-सा है?

- Ans
- 1. लक्षद्वीप
 - 2. दादरा और नगर हवेली और दमन और दीव
 - 3. अण्डमान और निकोबार द्वीप समूह
 - 4. पुदुचेरी

Question ID : 264330116047
Status : Answered
Chosen Option : 1

Q.6 भारत में, कौन सा कार्यक्रम ग्रामीण और शहरी क्षेत्रों में रियायती मूल्यों पर खाद्यान्न और अन्य आवश्यक वस्तुएं प्रदान करता है?

- Ans
- 1. भूदान
 - 2. सार्वजनिक वितरण प्रणाली (Public Distribution System)
 - 3. सुरक्षित भंडार (Buffer Stock)
 - 4. ग्रामदान

Question ID : 264330115535
Status : Answered
Chosen Option : 2

Q.7 सरकार के संसदीय स्वरूप को _____ मॉडल के रूप में भी जाना जाता है।

- Ans
- 1. साम्यवादी
 - 2. धनिकतंत्र
 - 3. धर्मतंत्र
 - 4. वेस्टमिन्स्टर

Question ID : 26433089177
Status : Answered
Chosen Option : 1

Q.8 चुनाव लड़ने और सरकार में सत्ता पर काबिज होने के लिए एकसाथ आने वाले लोगों के समूह को _____ कहा जाता है।

- Ans
- 1. न्यायपालिका
 - 2. राजनीतिक दल
 - 3. श्रमिक
 - 4. नगर पालिका

Question ID : 264330115665
Status : Answered
Chosen Option : 2

Q.9 _____ के अंतर्गत, सितम्बर 2022 में आवासन और शहरी कार्य मंत्रालय द्वारा पेय जल सर्वेक्षण शुरू किया गया।

- Ans
- 1. अमृत 2.0
 - 2. अटल जल पूर्ति
 - 3. नमामि गंगे
 - 4. जल शक्ति

Question ID : 264330116184
Status : Answered
Chosen Option : 1

Q.10 नालंदा विश्वविद्यालय की स्थापना _____ द्वारा 5वीं शताब्दी में की गई थी।

- Ans
- 1. कुमारगुप्त
 - 2. समुद्रगुप्त
 - 3. चंद्रगुप्त द्वितीय
 - 4. स्कंदगुप्त

Question ID : 264330115460
Status : Answered
Chosen Option : 1

Q.11 निम्नलिखित में से कौन-सा युग्म सुमेलित नहीं है?

- Ans 1. 2018 शीतकालीन ओलंपिक खेल - प्योंगचांग
 2. 2014 शीतकालीन ओलंपिक खेल - सोची
 3. 2022 शीतकालीन ओलंपिक खेल - बीजिंग
 4. 2010 शीतकालीन ओलंपिक खेल - लंदन

Question ID : 26433090752
Status : Answered
Chosen Option : 2

Q.12 खाद्य गाइड पिरामिड के शीर्ष पर क्या आता है?

- Ans 1. वसा और शर्करा
 2. खाद्यान्न
 3. दालें और फलियां
 4. फल और सब्जियां

Question ID : 264330115221
Status : Not Answered
Chosen Option : --

Q.13 निम्नलिखित में से किसे दिल्ली सरकार द्वारा परिषद सम्मान प्राप्त हुआ?

- Ans 1. केलूचरण महापात्रा
 2. शोवना नारायण
 3. वेम्पति चिन्ना सत्यम
 4. अनुराधा पाण्डेय

Question ID : 264330115838
Status : Not Answered
Chosen Option : --

Q.14 हाल ही में प्रकाशित पुस्तक "मैडम सर" निम्नलिखित में से किस महिला आईपीएस अधिकारी की कहानी है?

- Ans 1. संजुक्ता पराशर
 2. मंजरी जरुहर
 3. कंचन चौधरी भट्टाचार्य
 4. किरण बेदी

Question ID : 264330114991
Status : Answered
Chosen Option : 3

Q.15 _____ सैक्टर में शामिल लोग, प्राथमिक सामग्री को संसाधित करते हैं और उसे तैयार माल में परिवर्तित करते हैं।

- Ans
- 1. प्राथमिक
 - 2. शिक्षा
 - 3. सिंचाई
 - 4. द्वितीयक

Question ID : 264330115406
Status : Answered
Chosen Option : 4

Q.16 ऋण एक _____ का निर्माण करते हैं, क्योंकि उन्हें एक निश्चित अवधि में ऋणदाता को वापस करना पड़ता है।

- Ans
- 1. वृद्धि
 - 2. हिस्सेदारी
 - 3. परिसंपत्ति
 - 4. देयता

Question ID : 264330115288
Status : Not Answered
Chosen Option : --

Q.17 गणगौर महोत्सव देवी _____ के सम्मान में अधिकांशतः राजस्थान की महिलाओं द्वारा मनाया जाता है।

- Ans
- 1. लक्ष्मी
 - 2. दुर्गा
 - 3. पार्वती
 - 4. सीता

Question ID : 264330115118
Status : Answered
Chosen Option : 2

Q.18 नवंबर 2022 तक की स्थिति के अनुसार, निम्नलिखित में से कौन लक्षद्वीप, भारत के प्रशासक है?

- Ans
- 1. ममता बनर्जी
 - 2. प्रफुल्ल पटेल
 - 3. देवेन्द्र कुमार जोशी
 - 4. मनोज सिन्हा

Question ID : 264330114942
Status : Answered
Chosen Option : 3

Q.19 एलनीनो एक ऐसी घटना है जिसमें हर 2 से 5 साल में _____ तट से गुजरने वाली ठंडी धारा के स्थान पर गर्म महासागरीय धारा बहती है।

- Ans
- 1. पेरू
 - 2. चिली
 - 3. अर्जेंटीना
 - 4. ब्राजील

Question ID : 264330115990
Status : Not Answered
Chosen Option : --

Q.20 1905 में बंगाल के विभाजन के लिए अंग्रेजों द्वारा निम्नलिखित में से कौन-सा मुख्य तर्क प्रस्तुत किया गया था?

- Ans
- 1. धार्मिक सद्भाव
 - 2. व्यापार का विकास
 - 3. प्रशासनिक सुविधा
 - 4. शैक्षिक सुधार

Question ID : 26433089885
Status : Answered
Chosen Option : 1

Section : Part-C-Elementary Mathematics

Q.1 A एक काम को 15 दिन में पूरा कर सकता है। A ने अकेले कार्य आरंभ किया और 4 दिन कार्य किया। B ने अकेले शेष कार्य 18 दिन में पूरा किया। A और B मिलकर उस काम को कितने दिन में पूरा करेंगे?

- Ans
- 1. $7\frac{6}{29}$
 - 2. $11\frac{1}{29}$
 - 3. $8\frac{7}{29}$
 - 4. $9\frac{9}{29}$

Question ID : 26433076405
Status : Answered
Chosen Option : 3

Q.2 प्रथम 5 प्राकृतिक संख्याओं के घन के औसत और प्रथम 5 प्राकृतिक संख्याओं के वर्ग के औसत के मध्य का अंतर ज्ञात करें।

- Ans
- 1. 30
 - 2. 32
 - 3. 34
 - 4. 36

Question ID : 264330116695
Status : Answered
Chosen Option : 3

Q.3 दो ट्रेनें एक ही समय में मुंबई और दिल्ली से प्रस्थान करती हैं, और क्रमशः 15 km /h और 26 km /h की चाल से एक-दूसरे की ओर बढ़ती हैं। जब वे मिलती हैं, तो पता चलता है कि एक ट्रेन ने दूसरी ट्रेन से 99 km अधिक दूरी तय की है। दोनों स्टेशनों के बीच की दूरी ज्ञात कीजिए।

- Ans
- 1. 414 km
 - 2. 632 km
 - 3. 369 km
 - 4. 570 km

Question ID : 26433080052
Status : Answered
Chosen Option : 3

Q.4 P और Q के तीसरे समानुपाती तथा P, Q और R के चौथे समानुपाती का अनुपात 5 : 6 है, तो Q:R, _____ है।

- Ans
- 1. 3 : 2
 - 2. 6 : 5
 - 3. 2 : 3
 - 4. 5 : 6

Question ID : 26433074964
Status : Answered
Chosen Option : 2

Q.5 500 m लंबी एक वृत्ताकार दौड़ में, A और B एक ही समय पर और एक ही बिंदु से क्रमशः 4 m/sec और 5 m/sec की चाल से दौड़ना प्रारंभ करते हैं। एक ही दिशा में दौड़ते हुए वे प्रारंभिक बिंदु पर पहली बार कितनी देर बाद मिलेंगे?

- Ans
- 1. 450 sec
 - 2. 500 sec
 - 3. 400 sec
 - 4. 550 sec

Question ID : 26433063959
Status : Answered
Chosen Option : 2

Q.6 A ने ₹5 में 2 आम की दर से कई आम और ₹5 में 3 आम की दर से समान संख्या में आम खरीदे। 20% का लाभ अर्जित करने के लिए उसे एक दर्जन आम कितने रुपये में बेचना चाहिए?

- Ans
- 1. ₹16
 - 2. ₹25
 - 3. ₹12
 - 4. ₹30

Question ID : 26433076267
Status : Answered
Chosen Option : 4

Q.7 एक रेफ्रिजरेटर को Rs.28,448 में बेचने पर एक दुकानदार 12% का लाभ कमाता है। यदि लाभ घटाकर 8% कर दिया जाता है, तो रेफ्रिजरेटर का नया विक्रय मूल्य क्या होगा?

- Ans
- 1. Rs.25,400
 - 2. Rs.26,342
 - 3. Rs.24,500
 - 4. Rs.27,432

Question ID : 26433080303
Status : Answered
Chosen Option : 4

Q.8 यदि $17\% \text{ of } 630 = 35\% \text{ of } x$ है, तो x का मान क्या होगा?

- Ans
- 1. 310
 - 2. 356
 - 3. 306
 - 4. 308

Question ID : 26433075645
Status : Answered
Chosen Option : 3

Q.9 एक मूलधन पर 3 वर्ष में चक्रवृद्धि ब्याज मूलधन का 33.1% है, यदि ब्याज वार्षिक रूप से चक्रवृद्धि होता है। वार्षिक ब्याज दर ज्ञात करें।

- Ans
- 1. 5%
 - 2. 11%
 - 3. 8%
 - 4. 10%

Question ID : 26433081720
Status : Answered
Chosen Option : 4

Q.10 ऐसे शंकु का आयतन ज्ञात कीजिए जिसकी त्रिज्या 7 इंच और ऊँचाई 27 इंच है।

($\pi = \frac{22}{7}$ का प्रयोग करें)

- Ans
- 1. 1386 इंच³
 - 2. 1618 इंच³
 - 3. 1523 इंच³
 - 4. 1420 इंच³

Question ID : 26433080069
Status : Answered
Chosen Option : 1

Q.11 50 और 80 के बीच कितनी अभाज्य संख्याएँ होती हैं?

- Ans
- 1. 7
 - 2. 6
 - 3. 8
 - 4. 5

Question ID : 26433082608
Status : Answered
Chosen Option : 1

Q.12 एक बाइक सवार 60 km/h की चाल से एक निश्चित दूरी तय करता है और 80 km/h की चाल से वापस लौटता है। उसकी औसत चाल ज्ञात करें।

- Ans
- 1. $68\frac{4}{7}$ km/h
 - 2. $63\frac{1}{7}$ km/h
 - 3. $53\frac{3}{7}$ km/h
 - 4. $71\frac{1}{7}$ km/h

Question ID : 26433076396
Status : Answered
Chosen Option : 1

Q.13 एक बेलनाकार टैंक की क्षमता $6,160 \text{ m}^3$ है। इसके आधार का व्यास 28 m है। इस टैंक की गहराई ज्ञात कीजिए।

$\pi = \frac{22}{7}$ लेने पर

- Ans
- 1. 10 m
 - 2. 5 m
 - 3. 15 m
 - 4. 8 m

Question ID : 26433076055
Status : Answered
Chosen Option : 1

Q.14 एक पौधे की ऊँचाई 2% प्रतिवर्ष की दर से बढ़ती है। यदि इसकी वर्तमान ऊँचाई 1.2 m है, तो 3 वर्ष बाद पौधे की ऊँचाई क्या होगी?

- Ans 1. 1.273 m
 2. 1.253 m
 3. 1.254 m
 4. 1.263 m

Question ID : 26433090260
Status : Answered
Chosen Option : 1

Q.15 5 और 11 का तृतीयानुपाती ज्ञात कीजिए।

- Ans 1. 22.0
 2. 22.4
 3. 24.0
 4. 24.2

Question ID : 26433080326
Status : Answered
Chosen Option : 4

Q.16 पवन ने स्टोर से जींस की एक जोड़ी उस समय खरीदी जब वे 20 प्रतिशत की छूट दे रहे थे। यदि जींस की जोड़ी का नियमित मूल्य 1800 रुपए है, तो पवन ने छूट के साथ कितना भुगतान किया?

- Ans 1. 1360 रुपए
 2. 1590 रुपए
 3. 1680 रुपए
 4. 1440 रुपए

Question ID : 264330116753
Status : Answered
Chosen Option : 4

Q.17 दो संख्याएँ P और Q इस प्रकार हैं कि P के 10% और Q के 5% का योग P के 15% और Q के 25% के योग का एक-चौथाई है। P का Q से अनुपात ज्ञात कीजिए।

- Ans 1. 2 : 5
 2. 1 : 5
 3. 5 : 2
 4. 5 : 1

Question ID : 26433083033
Status : Answered
Chosen Option : 2

Q.18 Z का वर्ग ज्ञात करें। 4 अंको की सबसे छोटी संख्या जो 24 और 36 से पूर्णतः विभाज्य है, को 40 से विभाजित किए जाने पर प्राप्त किया गया शेषफल Z है।

- Ans
- 1. 144
 - 2. 100
 - 3. 36
 - 4. 64

Question ID : 264330116659
Status : Answered
Chosen Option : 4

Q.19 A एक कार्य को 40 दिनों में कर सकता है और B उसी कार्य को 80 दिनों में कर सकता है। वे एक साथ 20 दिनों तक काम करते हैं, कितना कार्य पूरा करना बाकी है?

- Ans
- 1. $1/4$
 - 2. $4/5$
 - 3. $1/2$
 - 4. $3/2$

Question ID : 264330116868
Status : Answered
Chosen Option : 1

Q.20 एक टेबल का अंकित मूल्य Rs.1,880 है। यदि इसे 15% की छूट पर बेचा जाता है, तो टेबल का विक्रय मूल्य क्या होगा?

- Ans
- 1. Rs.1,598
 - 2. Rs.1,498
 - 3. Rs.1,698
 - 4. Rs.1,798

Question ID : 26433075656
Status : Answered
Chosen Option : 1

Section : Part-D-English

Q.1 The sentence below is divided into four segments. Select the option that has an error of tense.

I think India will win the 20-20 cricket match.

- Ans
- 1. No error
 - 2. I think
 - 3. India will win
 - 4. the 20-20 cricket match

Question ID : 26433092944
Status : Not Answered
Chosen Option : --

Q.2 Select the most appropriate option to fill in the blank.

The operation is to be distinguished from other forms of heart surgery and, in particular, from the repair of openings between the _____.

- Ans
- 1. oracle
 - 2. oculus
 - 3. oracles
 - 4. auricles

Question ID : 26433090387
Status : Not Answered
Chosen Option : --

Q.3 Select the most appropriate meaning of the given idiom.

Will-o-the-wisp

- Ans
- 1. A splendid dream
 - 2. An unrealistic or unattainable goal
 - 3. Having a strong will
 - 4. Being greedy for money

Question ID : 26433072436
Status : Not Answered
Chosen Option : --

Q.4 Select the INCORRECTLY spelt word.

- Ans
- 1. Anticipate
 - 2. Calculate
 - 3. Menipulate
 - 4. Instigate

Question ID : 26433073497
Status : Not Answered
Chosen Option : --

Q.5 Select the most appropriate ANTONYM of the given word.

Presumable

- Ans
- 1. Reasonable
 - 2. Credible
 - 3. Improbable
 - 4. Forgetful

Question ID : 26433072210
Status : Not Answered
Chosen Option : --

Q.6 Select the INCORRECTLY spelt word.

- Ans 1. Philosophy
 2. Horrendous
 3. Passive
 4. Farmaceutical

Question ID : 26433073732
Status : Not Answered
Chosen Option : --

Q.7 Select the most appropriate option to fill in the blank.

As I review the events of my past life, I realise how _____ are the influences that shape our destinies.

- Ans 1. subtle
 2. artless
 3. crude
 4. trumpet

Question ID : 26433092833
Status : Not Answered
Chosen Option : --

Q.8 Select the most appropriate meaning of the given idiom.

Better the devil you know than the devil you don't.

- Ans 1. Being cruel is better with known people.
 2. It is easier to be in a known bad situation than being in an unknown worse situation.
 3. Do not trust unknown and known devils.
 4. Being good is better with evil people.

Question ID : 26433073820
Status : Not Answered
Chosen Option : --

Q.9 Select the most appropriate homophone to fill in the blank.

He is a good soul. Although the _____ of his shoe is worn out, he never asks anyone to help him with money.

- Ans 1. seal
 2. sole
 3. sold
 4. soil

Question ID : 26433088795
Status : Not Answered
Chosen Option : --

Q.10 Select the most appropriate synonym of the given word.

Confuse

- Ans 1. Puzzle
 2. Disunion
 3. Compose
 4. Admit

Question ID : 26433072183
Status : Not Answered
Chosen Option : --

Q.11 Select the most appropriate option that can substitute the underlined segment in the given sentence.

Don't sit on this bench as it is just painted.

- Ans 1. it was painted just
 2. it had been painted just
 3. it had painted just
 4. it has just been painted

Question ID : 26433088169
Status : Not Answered
Chosen Option : --

Q.12 Select the most appropriate ANTONYM of the given word.

Scanty

- Ans 1. Meagre
 2. Buoyant
 3. Abundant
 4. Divine

Question ID : 26433084685
Status : Not Answered
Chosen Option : --

Q.13 Select the most appropriate option to substitute the underlined segment in the given sentence.

The monitor of the class don't know the answer.

- Ans 1. the class doesn't knew
 2. the class doesn't know
 3. the class didn't knew
 4. the class don't knew

Question ID : 26433093022
Status : Not Answered
Chosen Option : --

Q.14 Select the most appropriate ANTONYM of the given word.

Gratitude

- Ans**
- 1. Appreciation
 - 2. Mercy
 - 3. Thanklessness
 - 4. Care

Question ID : **26433073799**
Status : **Not Answered**
Chosen Option : --

Q.15 Select the most appropriate synonym of the given word.

Deficient

- Ans**
- 1. Insufficient
 - 2. Distinct
 - 3. Sufficient
 - 4. Abundant

Question ID : **26433074045**
Status : **Not Answered**
Chosen Option : --

Comprehension:

In the following passage, some words have been deleted. Read the passage carefully and select the most appropriate option to fill in each blank.

If you (1) _____ yourself with the good and righteous, they can only (2) _____ you up. If you (3) _____ yourself with the others, they will (4) _____ you down into the doldrums of mediocrity, and they will keep you there, but only as long as you (5) _____ it.

SubQuestion No : 16

Q.16 Select the most appropriate option to fill in blank number 1.

- Ans**
- 1. surround
 - 2. ignore
 - 3. retreat
 - 4. avoid

Question ID : **26433089319**
Status : **Not Answered**
Chosen Option : --

Comprehension:

In the following passage, some words have been deleted. Read the passage carefully and select the most appropriate option to fill in each blank.

If you (1) _____ yourself with the good and righteous, they can only (2) _____ you up. If you (3) _____ yourself with the others, they will (4) _____ you down into the doldrums of mediocrity, and they will keep you there, but only as long as you (5) _____ it.

SubQuestion No : 17

Q.17 Select the most appropriate option to fill in blank number 2.

- Ans 1. replace
 2. raise
 3. tarnish
 4. vanish

Question ID : 26433089320
Status : Not Answered
Chosen Option : --

Comprehension:

In the following passage, some words have been deleted. Read the passage carefully and select the most appropriate option to fill in each blank.

If you (1) _____ yourself with the good and righteous, they can only (2) _____ you up. If you (3) _____ yourself with the others, they will (4) _____ you down into the doldrums of mediocrity, and they will keep you there, but only as long as you (5) _____ it.

SubQuestion No : 18

Q.18 Select the most appropriate option to fill in blank number 3.

- Ans 1. encircle
 2. clarify
 3. hide
 4. loath

Question ID : 26433089321
Status : Not Answered
Chosen Option : --

Comprehension:

In the following passage, some words have been deleted. Read the passage carefully and select the most appropriate option to fill in each blank.

If you (1) _____ yourself with the good and righteous, they can only (2) _____ you up. If you (3) _____ yourself with the others, they will (4) _____ you down into the doldrums of mediocrity, and they will keep you there, but only as long as you (5) _____ it.

SubQuestion No : 19

Q.19 Select the most appropriate option to fill in blank number 4.

- Ans 1. elevate
 2. drag
 3. foster
 4. nurture

Question ID : 26433089322
Status : Not Answered
Chosen Option : --

Comprehension:

In the following passage, some words have been deleted. Read the passage carefully and select the most appropriate option to fill in each blank.

If you (1) _____ yourself with the good and righteous, they can only (2) _____ you up. If you (3) _____ yourself with the others, they will (4) _____ you down into the doldrums of mediocrity, and they will keep you there, but only as long as you (5) _____ it.

SubQuestion No : 20**Q.20 Select the most appropriate option to fill in blank number 5.**

- Ans 1. disregard
 2. overlook
 3. forget
 4. permit

Question ID : 26433089323
Status : Not Answered
Chosen Option : --

Section : Part-D-Hindi

Q.1 निम्नलिखित मुहावरों का कौन सा एक विकल्प-युग्म अशुद्ध है?

- Ans 1. कूच कर जाना-चले जाना
 2. कान में डाल देना-बता देना
 3. खून खौलना-जोश आना
 4. खून सफेद हो जाना-अपमान करना

Question ID : 26433062558
Status : Answered
Chosen Option : 4

Q.2 निम्नलिखित अकर्मक एवं सकर्मक क्रिया शब्द युग्मों में से किसमें त्रुटि है?

- Ans 1. जुड़ना - जोड़ना
 2. मूड़ना - मोड़ना
 3. खुलना - खोलना
 4. दिखना - देखना

Question ID : 26433063040
Status : Answered
Chosen Option : 2

Q.3 निम्नलिखित में से अशुद्ध वाक्य कौन-सा है?

- Ans 1. लक्ष्य ने शिक्षक से विभा की शिकायत की।
 2. एक विद्यार्थी को दो पुस्तक मिलेगी।
 3. अनिल ने कल दो खिलौने खरीदे।
 4. नव्या की बहन शिमला में पढ़ती है।

Question ID : 26433066988
Status : Answered
Chosen Option : 3

Q.4 वृक्ष काटना अत्यंत घातक है।

रेखांकित शब्द के उचित पर्यायवाची शब्द का चयन कीजिए।

- Ans
- 1. यती
 - 2. वित्त
 - 3. पेड़
 - 4. अंशु

Question ID : 26433079622
Status : Answered
Chosen Option : 3

Q.5 'पुस्तकालय _____'

उपर्युक्त वाक्य में रिक्त स्थान का उपयुक्त विकल्प निम्न में से क्या होगा?

- Ans
- 1. वह स्थान है, जहाँ पढ़ाई मिलती है
 - 2. वह स्थान है, जहाँ बैठकर पढ़ाई की जाती है
 - 3. वह स्थान है, जहाँ बैठकर बातें की जाती हैं
 - 4. वह स्थान है, जहाँ बैठकर पढ़ाई मिलती है

Question ID : 26433067037
Status : Answered
Chosen Option : 2

Q.6 निम्नलिखित वाक्य में अशुद्धि पहचानें-
कानून के हाथ लंबे होते हैं।

- Ans
- 1. होते
 - 2. हाथ
 - 3. कानून
 - 4. लंबे

Question ID : 26433066823
Status : Answered
Chosen Option : 3

Q.7 रेखांकित शब्द-समूह के लिए सर्वाधिक उपयुक्त विकल्प चुनें।
राज्य के प्रधान शासक द्वारा दिया गया आधिकारिक आदेश पढ़कर मुझे प्रसन्नता हुई।

- Ans
- 1. नियमावली
 - 2. अध्यादेश
 - 3. आदेश
 - 4. अधिकादेश

Question ID : 26433062283
Status : Answered
Chosen Option : 2

Q.8 'कमल' का पर्यायवाची शब्द है-

- Ans
- 1. पयोद
 - 2. पंकद
 - 3. पंकज
 - 4. सुमन

Question ID : 26433062915
Status : Answered
Chosen Option : 3

Q.9 'कर्मण्य' शब्द का विलोम क्या होगा?

- Ans
- 1. विकर्मण्य
 - 2. सकर्मण्य
 - 3. अकर्मण्य
 - 4. निकर्मण्य

Question ID : 26433067096
Status : Answered
Chosen Option : 3

Q.10 'जो बीत गया है' वाक्यांश के लिए सार्थक शब्द है-

- Ans
- 1. व्यतीत
 - 2. अतीत
 - 3. आगामी
 - 4. वर्तमान

Question ID : 26433065863
Status : Answered
Chosen Option : 2

Q.11 'आकर्षण' शब्द का विलोम क्या होगा?

- Ans
- 1. विकर्षण
 - 2. आकर्षित
 - 3. अनुपम
 - 4. मनोहर

Question ID : 26433067089
Status : Answered
Chosen Option : 1

Q.12 'आपे से बाहर होना' मुहावरे का सही अर्थ है -

- Ans
- 1. डांटना
 - 2. विरोध करना
 - 3. अत्यधिक क्रोधित हो जाना
 - 4. जल जाना

Question ID : 26433065917
Status : Answered
Chosen Option : 3

Q.13 निम्नलिखित विकल्पों में से किस एक वाक्य में गुणवाचक विशेषण का उचित प्रयोग नहीं किया गया है?

- Ans
- 1. कर्मवीर बौना है।
 - 2. वह लम्बा है।
 - 3. शिवशंकर की शर्ट काली है।
 - 4. सुरेश केरल में पढ़ता है।

Question ID : 26433062971
Status : Answered
Chosen Option : 4

Q.14 निम्नलिखित विकल्पों में से दिए गए वाक्यांश के लिए उपयुक्त शब्द चुनें।
वृक्षों और बेलों से घिरा स्थान

- Ans
- 1. कल्प
 - 2. कुंज
 - 3. वन
 - 4. क्यारी

Question ID : 26433069991
Status : Answered
Chosen Option : 2

Q.15 निम्न वाक्य में रेखांकित शब्द को विकल्पों में दिए गए शब्दों में से उचित शब्द से बदलें।
मैंने चित्त में सोचा कि भला ऐसा क्यों होता है!

- Ans
- 1. आत्मा
 - 2. विचार
 - 3. मन
 - 4. व्यवहार

Question ID : 26433062878
Status : Answered
Chosen Option : 3

Comprehension:

नीचे दिए गए गद्यांश से कुछ शब्दों को हटा दिया गया है। गद्यांश के आधार पर पूछे गए प्रश्नों के अनुसार इन रिक्त स्थानों की पूर्ति उपयुक्त शब्दों द्वारा कीजिए।
सिंह की भांति राणा ने उनके बीच में 1. _____ किया। सत्रहों सरदार पृथ्वी पर झुक गए। उनकी तलवारें 2. _____ उठीं और पीठ पर बंधी हुई बड़ी ढालें हिल पड़ीं। सेना ने महाराज को देखते ही वज्रध्वनि से 3. _____ किया। प्रताप ने एक ऊंचे टीले पर खड़े होकर अपने सरदारों और सेना को सम्बोधित करके कहा, "मेरे प्यारे वीरों, वंशधरों! आज हम वह कार्य करने जा रहे हैं जो हमेशा हमारे 4. _____ ने किया है। हम आज मरेंगे अथवा विजय प्राप्त करेंगे। हमारा इस युद्ध में कोई स्वार्थ नहीं है। हम केवल इसलिए युद्ध कर रहे हैं कि हमारी 5. _____ में हस्तक्षेप हो रहा है। क्या यहाँ पर कोई ऐसा राजपूत है जो पराया गुलाम बना रहना पसंद करे? जो ऐसा हो उसे मेरी तरफ से छुट्टी है।"

SubQuestion No : 16

Q.16 रिक्त स्थान 1 के लिए उपयुक्त शब्द का चयन विकल्पों में से कीजिए।

- Ans
- 1. पटाक्षेप
 - 2. आक्रमण
 - 3. पदार्पण
 - 4. तांडव

Question ID : 26433069925

Status : Answered

Chosen Option : 3

Comprehension:

नीचे दिए गए गद्यांश से कुछ शब्दों को हटा दिया गया है। गद्यांश के आधार पर पूछे गए प्रश्नों के अनुसार इन रिक्त स्थानों की पूर्ति उपयुक्त शब्दों द्वारा कीजिए।
सिंह की भांति राणा ने उनके बीच में 1. _____ किया। सत्रहों सरदार पृथ्वी पर झुक गए। उनकी तलवारें 2. _____ उठीं और पीठ पर बंधी हुई बड़ी ढालें हिल पड़ीं। सेना ने महाराज को देखते ही वज्रध्वनि से 3. _____ किया। प्रताप ने एक ऊंचे टीले पर खड़े होकर अपने सरदारों और सेना को सम्बोधित करके कहा, "मेरे प्यारे वीरों, वंशधरों! आज हम वह कार्य करने जा रहे हैं जो हमेशा हमारे 4. _____ ने किया है। हम आज मरेंगे अथवा विजय प्राप्त करेंगे। हमारा इस युद्ध में कोई स्वार्थ नहीं है। हम केवल इसलिए युद्ध कर रहे हैं कि हमारी 5. _____ में हस्तक्षेप हो रहा है। क्या यहाँ पर कोई ऐसा राजपूत है जो पराया गुलाम बना रहना पसंद करे? जो ऐसा हो उसे मेरी तरफ से छुट्टी है।"

SubQuestion No : 17

Q.17 रिक्त स्थान 2 के लिए उपयुक्त शब्द का चयन विकल्पों में से कीजिए।

- Ans
- 1. भनभना
 - 2. खनखना
 - 3. तड़तड़ा
 - 4. बजबजा

Question ID : 26433069926

Status : Answered

Chosen Option : 3

Comprehension:

नीचे दिए गए गद्यांश से कुछ शब्दों को हटा दिया गया है। गद्यांश के आधार पर पूछे गए प्रश्नों के अनुसार इन रिक्त स्थानों की पूर्ति उपयुक्त शब्दों द्वारा कीजिए।
सिंह की भांति राणा ने उनके बीच में 1. _____ किया। सत्रहों सरदार पृथ्वी पर झुक गए। उनकी तलवारें 2. _____ उठीं और पीठ पर बंधी हुई बड़ी ढालें हिल पड़ीं। सेना ने महाराज को देखते ही वज्रध्वनि से 3. _____ किया। प्रताप ने एक ऊंचे टीले पर खड़े होकर अपने सरदारों और सेना को सम्बोधित करके कहा, "मेरे प्यारे वीरों, वंशधरों! आज हम वह कार्य करने जा रहे हैं जो हमेशा हमारे 4. _____ ने किया है। हम आज मरेगे अथवा विजय प्राप्त करेंगे। हमारा इस युद्ध में कोई स्वार्थ नहीं है। हम केवल इसलिए युद्ध कर रहे हैं कि हमारी 5. _____ में हस्तक्षेप हो रहा है। क्या यहाँ पर कोई ऐसा राजपूत है जो पराया गुलाम बना रहना पसंद करे? जो ऐसा हो उसे मेरी तरफ से छुट्टी है।"

SubQuestion No : 18

Q.18 रिक्त स्थान 3 के लिए उपयुक्त शब्द का चयन विकल्पों में से कीजिए।

- Ans 1. अभियान
 2. जयघोष
 3. शोकगान
 4. मंगलगान

Question ID : 26433069927

Status : Answered

Chosen Option : 2

Comprehension:

नीचे दिए गए गद्यांश से कुछ शब्दों को हटा दिया गया है। गद्यांश के आधार पर पूछे गए प्रश्नों के अनुसार इन रिक्त स्थानों की पूर्ति उपयुक्त शब्दों द्वारा कीजिए।
सिंह की भांति राणा ने उनके बीच में 1. _____ किया। सत्रहों सरदार पृथ्वी पर झुक गए। उनकी तलवारें 2. _____ उठीं और पीठ पर बंधी हुई बड़ी ढालें हिल पड़ीं। सेना ने महाराज को देखते ही वज्रध्वनि से 3. _____ किया। प्रताप ने एक ऊंचे टीले पर खड़े होकर अपने सरदारों और सेना को सम्बोधित करके कहा, "मेरे प्यारे वीरों, वंशधरों! आज हम वह कार्य करने जा रहे हैं जो हमेशा हमारे 4. _____ ने किया है। हम आज मरेगे अथवा विजय प्राप्त करेंगे। हमारा इस युद्ध में कोई स्वार्थ नहीं है। हम केवल इसलिए युद्ध कर रहे हैं कि हमारी 5. _____ में हस्तक्षेप हो रहा है। क्या यहाँ पर कोई ऐसा राजपूत है जो पराया गुलाम बना रहना पसंद करे? जो ऐसा हो उसे मेरी तरफ से छुट्टी है।"

SubQuestion No : 19

Q.19 रिक्त स्थान 4 के लिए उपयुक्त शब्द का चयन विकल्पों में से कीजिए।

- Ans 1. शत्रुओं
 2. पूर्वजों
 3. सहयोगियों
 4. अनुजों

Question ID : 26433069928

Status : Answered

Chosen Option : 2

Comprehension:

नीचे दिए गए गद्यांश से कुछ शब्दों को हटा दिया गया है। गद्यांश के आधार पर पूछे गए प्रश्नों के अनुसार इन रिक्त स्थानों की पूर्ति उपयुक्त शब्दों द्वारा कीजिए।

सिंह की भांति राणा ने उनके बीच में 1. _____ किया। सत्रहों सरदार पृथ्वी पर झुक गए। उनकी तलवारें 2. _____ उठीं और पीठ पर बंधी हुई बड़ी ढालें हिल पड़ी। सेना ने महाराज को देखते ही वज्रध्वनि से 3. _____ किया। प्रताप ने एक ऊंचे टीले पर खड़े होकर अपने सरदारों और सेना को सम्बोधित करके कहा, "मेरे प्यारे वीरों, वंशधरों! आज हम वह कार्य करने जा रहे हैं जो हमेशा हमारे 4. _____ ने किया है। हम आज मरेंगे अथवा विजय प्राप्त करेंगे। हमारा इस युद्ध में कोई स्वार्थ नहीं है। हम केवल इसलिए युद्ध कर रहे हैं कि हमारी 5. _____ में हस्तक्षेप हो रहा है। क्या यहाँ पर कोई ऐसा राजपूत है जो पराया गुलाम बना रहना पसंद करे? जो ऐसा हो उसे मेरी तरफ से छुट्टी है।"

SubQuestion No : 20

Q.20 रिक्त स्थान 5 के लिए उपयुक्त शब्द का चयन विकल्पों में से कीजिए।

- Ans** 1. स्वतंत्रता
 2. परतंत्रता
 3. देशभक्ति
 4. प्रसन्नता

Question ID : 26433069929

Status : Answered

Chosen Option : 1

KD Job Updates

Constable GD in CAPFs SSF Rifleman GD in Assam Rifles and Sepoy in NCB Examination 2022

Roll Number	KD Job Updates
Candidate Name	KD Job Updates
Venue Name	Shri Bhawani Niketan Institute of Technology and Management
Exam Date	06/02/2023
Exam Time	5:15 PM - 6:15 PM
Subject	Constable GD Examination 2022

Section : Part-A-General Intelligence and Reasoning

Q.1 उस विकल्प का चयन कीजिए जो नीचे दिए गए शब्दों के उस क्रम को निरूपित करता है जिस क्रम में वे अंग्रेजी शब्दकोश में आते हैं।

1. TOPOLOGY
2. TOPIC
3. TOPAZ
4. TOUR
5. TORTILLA
6. TORN

- Ans
- 1. 1, 2, 3, 6, 5, 4
 - 2. 1, 3, 2, 6, 5, 4
 - 3. 2, 3, 1, 6, 5, 4
 - 4. 3, 2, 1, 6, 5, 4

Question ID : 26433079380

Status : Answered

Chosen Option : 4

Q.2 निम्नलिखित में से कौन-सी संख्या दी गई श्रृंखला में प्रश्न चिह्न (?) के स्थान पर आएगी?
12, 23, 45, 56, 78, 89, 111, 122, ?

- Ans
- 1. 144
 - 2. 133
 - 3. 322
 - 4. 43

Question ID : 26433082736

Status : Answered

Chosen Option : 1

Q.3 उस विकल्प का चयन कीजिए जो पांचवें अक्षर-समूह से उसी प्रकार संबंधित है जिस प्रकार दूसरा अक्षर-समूह पहले अक्षर-समूह से संबंधित है और चौथा अक्षर-समूह तीसरे अक्षर-समूह से संबंधित है।
 REALITY : YEALITR :: SCIENCE : ECIENCS :: ADVERSE : ?

Ans 1. EDVERSA

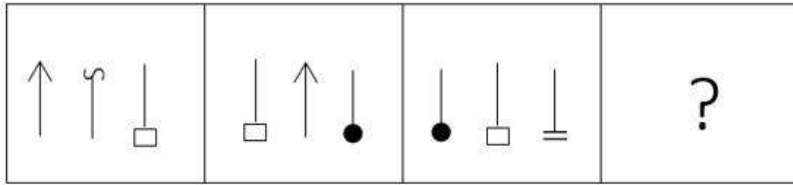
2. VDAERSE

3. VERSEAD

4. ESREVDA

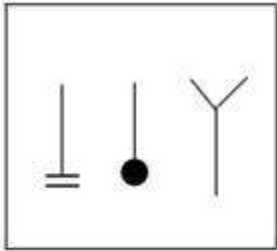
Question ID : 26433069636
 Status : Answered
 Chosen Option : 1

Q.4 दिए गए विकल्पों में से उस आकृति का चयन करें जो निम्न श्रृंखला में प्रश्नवाचक चिन्ह (?) के स्थान पर आ सकती है।

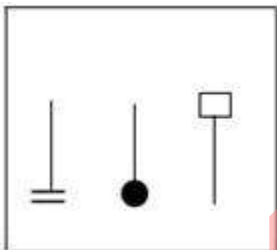


Ans

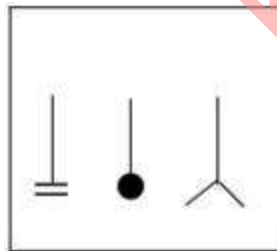
1.



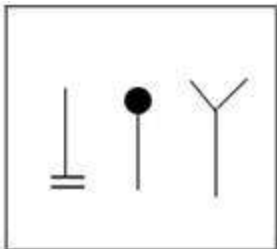
2.



3.



4.



Question ID : 26433080760
 Status : Answered
 Chosen Option : 1

Q.5 निम्नलिखित में से कौन-सी संख्या दी गई श्रृंखला में प्रश्न-चिह्न (?) के स्थान पर आएगी?
96, 48, 60, 30, 42, 21, ?

- Ans
- 1. 37
 - 2. 32
 - 3. 30
 - 4. 33

Question ID : 26433067882

Status : Answered

Chosen Option : 4

Q.6 उस समुच्चय का चयन करें, जिसमें संख्याएँ उसी प्रकार संबंधित हैं, जिस प्रकार निम्नलिखित समुच्चयों की संख्याएँ हैं।
(नोट: संख्याओं को उसके घटक अंकों में विभाजित किए बिना, पूर्ण संख्याओं पर ही गणितीय संक्रियाएँ की जानी चाहिए। जैसे 13 - मान लीजिए 13 पर गणितीय संक्रियाएँ जैसे कि 13 में जोड़ना/घटाना/गुणा करना आदि किया जा सकता है। 13 को 1 और 3 में तोड़कर और फिर 1 और 3 पर गणितीय संक्रियाएँ करने की अनुमति नहीं है।)
(9, 14, 161)
(12, 18, 210)

- Ans
- 1. (23, 40, 371)
 - 2. (29, 17, 322)
 - 3. (11, 33, 348)
 - 4. (40, 20, 340)

Question ID : 26433076486

Status : Answered

Chosen Option : 2

Q.7 निम्नलिखित में से कौन-सा पद दी गई श्रृंखला में प्रश्न-चिह्न (?) के स्थान पर आएगा?
FSCW, HQEU, JOGS, LMIQ, ?

- Ans
- 1. MNKO
 - 2. MLJP
 - 3. NKLO
 - 4. NKKO

Question ID : 26433069445

Status : Answered

Chosen Option : 4

Q.8 निम्नलिखित में से कौन-सा पद दी गई श्रृंखला में प्रश्न-चिह्न (?) के स्थान पर आएगा?
ADLU, EGOO, ? , OMUE, UPXA

- Ans
- 1. IJRI
 - 2. IKRI
 - 3. JIIR
 - 4. ILIR

Question ID : 26433068307

Status : Answered

Chosen Option : 1

Q.9 O, P, Q, R और S एक वृत्ताकार मेज पर केंद्र की ओर मुख करके बैठे हैं। R, S के बाईं ओर ठीक बगल में बैठा है। Q, O के दाईं ओर ठीक बगल में बैठा है। S, R और O के ठीक बगल में बैठा है। P, R के बाईं ओर ठीक बगल में बैठा है। Q के दाईं ओर ठीक बगल में कौन बैठा है?

- Ans
- 1. O
 - 2. R
 - 3. P
 - 4. S

Question ID : 26433074606

Status : Answered

Chosen Option : 3

Q.10 छः मित्र सारथी, परी, वाणी, कबीर, अर्शी और कमल एक वृत्ताकार स्थिति में बैठे हैं। उन सभी का मुख वृत्त के केंद्र की ओर है। सारथी, परी के बाईं ओर दूसरे स्थान पर बैठा है। वाणी, कबीर के दाईं ओर तीसरे स्थान पर बैठी है। अर्शी, परी और कबीर के ठीक बगल में बैठी है। वाणी के बाईं ओर चौथे स्थान पर कौन बैठा/बैठी है?

- Ans
- 1. परी
 - 2. अर्शी
 - 3. कमल
 - 4. कबीर

Question ID : 26433069506

Status : Answered

Chosen Option : 4

Q.11 एक निश्चित कूट भाषा में, 'ENTITY' को 'UOFAVK' के रूप में लिखा जाता है और 'EQUITY' को 'VRFAVK' के रूप में लिखा जाता है। उसी भाषा में 'ESCAPE' को कैसे लिखा जाएगा?

- Ans
- 1. EPACSE
 - 2. DTFGRC
 - 3. CSEEP A
 - 4. DTFEPA

Question ID : 26433090043

Status : Answered

Chosen Option : 2

Q.12 एक निश्चित कूट भाषा में, STAR को 58 के रूप में कूटबद्ध किया जाता है और ALARM को 45 के रूप में कूटबद्ध किया जाता है। STAGE को उसी भाषा में किस प्रकार कूटबद्ध किया जाएगा?

- Ans
- 1. 52
 - 2. 51
 - 3. 49
 - 4. 50

Question ID : 26433067994

Status : Answered

Chosen Option : 1

Q.13 दर्पण को नीचे दिए गए चित्र के अनुसार MN पर रखे जाने पर दी गई आकृति

का दर्पण में निर्मित सही प्रतिबिंब चयनित कीजिए।

R S 2 T z x W

M _____ N

Ans

✓ 1. B 2 5 1 2 X M

✗ 2. R 2 5 1 2 X M

✗ 3. B 2 5 T 2 X M

✗ 4. B 2 2 1 2 X M

Question ID : 26433080803

Status : Answered

Chosen Option : 1

Q.14 A @ B का अर्थ है 'A, B की बहन है'।

A & B का अर्थ है 'A, B का भाई है'।

A # B का अर्थ है 'A, B की पत्नी है'।

A ^ B का अर्थ है 'A, B की माता है'।

A + B का अर्थ है 'A, B के पिता हैं'।

यदि A & C + E ^ G # I & K + M @ O है, तो निम्नलिखित में से कौन-सा कथन सही नहीं है?

Ans ✗ 1. C, G के नाना हैं।

✓ 2. I, E का पुत्र है।

✗ 3. M, K की पुत्री है।

✗ 4. K, O के पिता हैं।

Question ID : 26433068951

Status : Answered

Chosen Option : 3

Q.15 नीचे दिए गए समीकरण को गणितीय रूप से सही बनाने के लिए किन दो चिन्हों को परस्पर बदलना चाहिए?

$$104 \div 13 + 60 - 5 \times 2 = 115$$

Ans ✗ 1. + और ×

✗ 2. ÷ और ×

✗ 3. × और -

✓ 4. ÷ और -

Question ID : 264330117498

Status : Answered

Chosen Option : 4

Q.16 इस प्रश्न में तीन कथन दिए गए हैं, जिसके बाद दो निष्कर्ष I और II दिए गए हैं। कथनों को सत्य मानते हुए, भले ही वे सर्वज्ञात तथ्यों से भिन्न प्रतीत होते हों, निर्णय कीजिए कि कौन-सा/से निष्कर्ष कथनों का तार्किक रूप से अनुसरण करता है/अनुसरण करते हैं।

कथन:

सभी चूड़ियां सिक्के हैं।

सभी सिक्के पायलें हैं।

सभी पायलें लॉकेट हैं।

निष्कर्ष:

I. सभी लॉकेट चूड़ियां हैं।

II. कुछ लॉकेट सिक्के हैं।

Ans 1. केवल निष्कर्ष II अनुसरण करता है।

2. केवल निष्कर्ष I अनुसरण करता है।

3. न तो निष्कर्ष I और न ही II अनुसरण करता है।


4. निष्कर्ष I और II दोनों अनुसरण करते हैं।

Question ID : 26433070392

Status : Answered

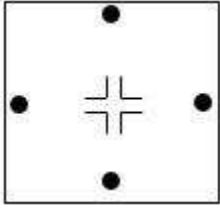
Chosen Option : 1

Q.17 एक कागज को नीचे दर्शाए गए अनुसार मोड़ा और काटा जाता है। खोले जाने पर यह कैसा दिखाई देगा?

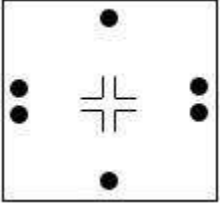


Ans

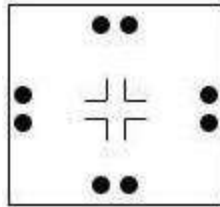
1.



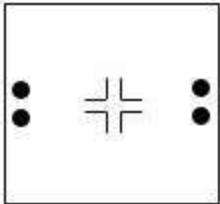
2.



3.



4.



Question ID : 26433090090

Status : Answered

Chosen Option : 3

Q.18 उस विकल्प का चयन कीजिए जो पांचवें अक्षर-समूह से उसी प्रकार संबंधित है जिस प्रकार दूसरा अक्षर-समूह पहले अक्षर-समूह से संबंधित है और चौथा अक्षर-समूह तीसरे अक्षर-समूह से संबंधित है।
GLOW: SOMF :: LIKE: NRQX :: SAVE: ?

- Ans
- 1. HZEW
 - 2. GZFX
 - 3. GYEW
 - 4. UCTX

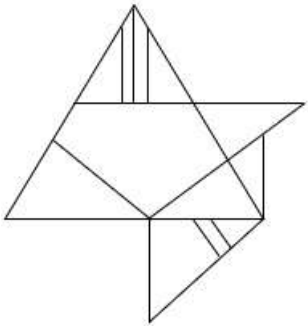
Question ID : 26433057493

Status : Answered

Chosen Option : 2

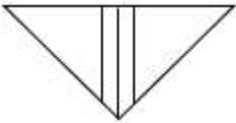
Q.19 वह विकल्प चित्र चुनिए, जो प्रस्तुत चित्र में अंतर्निहित है। (घुमाना अनुमन्य नहीं

क)

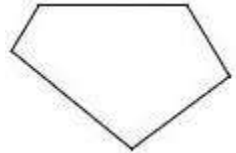


Ans

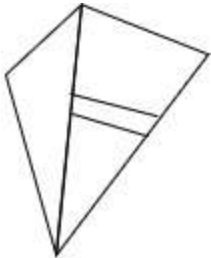
1.



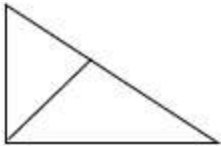
2.



3.



4.



Question ID : 26433069341

Status : Answered

Chosen Option : 2

Q.20 यदि A का अर्थ + है, B का अर्थ - है और C का अर्थ \times है, तो निम्नलिखित समीकरण का मान क्या होगा?
20 C 5 A 3 C 2 B 16

- Ans 1. 90
 2. 85
 3. 80
 4. 100

Question ID : 26433092971
Status : Answered
Chosen Option : 1

Section : Part-B-General Knowledge and General awareness

Q.1 असहयोग आंदोलन के प्रस्ताव की पुष्टि दिसंबर 1920 में _____ में आयोजित भारतीय राष्ट्रीय कांग्रेस के वार्षिक अधिवेशन में की गई थी।

- Ans 1. भोपाल
 2. नागपुर
 3. सूरत
 4. मद्रास

Question ID : 26433089882
Status : Answered
Chosen Option : 2

Q.2 संगमरमर का रासायनिक सूत्र _____ है।

- Ans 1. Ca(OH)_2
 2. CaCO_3
 3. CO_2
 4. CaO

Question ID : 26433066471
Status : Answered
Chosen Option : 2

Q.3 अरब सागर से आने वाली दक्षिण-पश्चिम मानसून पवनों को अंतः उष्णकटिबंधीय अभिसरण क्षेत्र की ओर प्रवाहित करने में कौन बाधा डालता है?

- Ans 1. पूर्वी घाट
 2. पश्चिमी घाट
 3. अरावली पर्वतमाला
 4. महान हिमालय पर्वतमाला

Question ID : 264330115987
Status : Answered
Chosen Option : 4

Q.4 भारत के 35वें राष्ट्रीय खेलों का आयोजन किस वर्ष हुआ था?

- Ans
- 1. 2013
 - 2. 2014
 - 3. 2015
 - 4. 2017

Question ID : 264330116254
Status : Answered
Chosen Option : 4

Q.5 प्लाज्मा झिल्ली के अंदर _____ एक तरल पदार्थ है।

- Ans
- 1. क्रोमेटिन
 - 2. कोशिका द्रव्य
 - 3. केंद्रक
 - 4. माइटोकांड्रियन

Question ID : 264330115209
Status : Answered
Chosen Option : 2

Q.6 निम्नलिखित में से किस नर्तक ने 2004 में संगीत नाटक अकादमी पुरस्कार जीता था?

- Ans
- 1. अनुराधा पाण्डेय
 - 2. अमला अक्किनेनी
 - 3. कृष्णा एला
 - 4. जतिन गोस्वामी

Question ID : 264330115826
Status : Not Answered
Chosen Option : --

Q.7 विश्व का सबसे बड़ा लोकतंत्र कौन सा है?

- Ans
- 1. ब्राज़ील
 - 2. चीन
 - 3. भारत
 - 4. यूएसए

Question ID : 264330115620
Status : Answered
Chosen Option : 3

Q.8 जुलाई 2022 में, महाराष्ट्र राज्य विधानसभा के इतिहास में सबसे कम आयु के स्पीकर कौन बने?

- Ans
- 1. साजन शाह
 - 2. विवेक बिंद्रा
 - 3. संदीप माहेश्वरी
 - 4. राहुल नार्वेकर

Question ID : 264330114988

Status : Answered

Chosen Option : 4

Q.9 करागा, _____ के सबसे पुराने त्यौहारों में से एक, यह देवी शक्ति के सम्मान में मनाया जाता है।

- Ans
- 1. केरल
 - 2. तमिलनाडु
 - 3. आंध्र प्रदेश
 - 4. कर्नाटक

Question ID : 264330115128

Status : Not Answered

Chosen Option : --

Q.10 छठी पंचवर्षीय योजना के अनुसार, लक्षित आर्थिक विकास दर क्या थी?

- Ans
- 1. 6.0
 - 2. 5.8
 - 3. 5.2
 - 4. 6.3

Question ID : 264330116125

Status : Answered

Chosen Option : 3

Q.11 _____, संगठित क्षेत्र में कताई और बुनाई को छोड़कर संपूर्ण वस्त्र मूल्य श्रृंखला (textile value chain) में कौशल विकास और प्लेसमेंट उन्मुख प्रशिक्षण प्रदान करने का प्रायोजन रखता/रखती है।

- Ans
- 1. सेवा योजना
 - 2. समर्थ योजना
 - 3. मर्चेन्डाइज एक्सपोर्ट फ्रॉम इंडिया योजना
 - 4. MPLADS (संसद सदस्य स्थानीय क्षेत्र विकास योजना)

Question ID : 264330116172

Status : Not Answered

Chosen Option : --

Q.12 यदि सार्वजनिक ऋण से भविष्य में निर्गत में वृद्धि _____ होती है, तो यह एक प्रकार का बोझ है।

- Ans
- 1. कम
 - 2. बढ़ती
 - 3. विस्तारित
 - 4. अवर्धित

Question ID : 264330115285
Status : Not Answered
Chosen Option : --

Q.13 निम्नलिखित में से, _____ एक खाद्य फसल है

- Ans
- 1. जूट
 - 2. रबड़
 - 3. कपास
 - 4. चावल

Question ID : 264330115425
Status : Answered
Chosen Option : 4

Q.14 निम्नलिखित में से किस जलवायु में आप रबर की फसल नहीं उगा सकते हैं?

- Ans
- 1. उपोष्णकटिबंधीय जलवायु
 - 2. उष्णकटिबंधी जलवायु
 - 3. भूमध्यरेखीय जलवायु
 - 4. ध्रुवीय जलवायु

Question ID : 264330115532
Status : Answered
Chosen Option : 2

Q.15 भारत के शास्त्रीय नृत्यों में से एक सत्रीया नृत्य निम्नलिखित में से किस धर्म की शिक्षाओं को दर्शाता है?

- Ans
- 1. हिंदू धर्म
 - 2. सिख धर्म
 - 3. जैन धर्म
 - 4. बौद्ध धर्म

Question ID : 26433071484
Status : Answered
Chosen Option : 1

Q.16 जनगणना 2011 के अनुसार भारत का दूसरा सबसे अधिक जनसंख्या वाला राज्य कौन-सा है?

- Ans
- 1. महाराष्ट्र
 - 2. बिहार
 - 3. झारखंड
 - 4. उत्तर प्रदेश

Question ID : 264330116035
Status : Answered
Chosen Option : 1

Q.17 नवंबर 2022 में महाराष्ट्र, भारत में अंधेरी पूर्व निर्वाचन क्षेत्र से विधान सभा के सदस्य कौन बने?

- Ans
- 1. देवेन्द्र फडणवीस
 - 2. नारायण राणे
 - 3. ऋतुजा लटके
 - 4. चंद्रकांत जाधव

Question ID : 264330114963
Status : Not Answered
Chosen Option : --

Q.18 साइखोम मीराबाई चानू एक _____ हैं।

- Ans
- 1. भारतीय साइक्लिस्ट
 - 2. भारतीय भारोत्तोलक
 - 3. भारतीय बॉक्सर
 - 4. भारतीय पहलवान

Question ID : 264330115956
Status : Answered
Chosen Option : 2

Q.19 सातवाहन साम्राज्य की स्थापना लगभग कितने वर्ष पूर्व हुई थी?

- Ans
- 1. 1700
 - 2. 2100
 - 3. 2800
 - 4. 2400

Question ID : 264330115465
Status : Not Answered
Chosen Option : --

Q.20 भारत का राष्ट्रपति बनने के लिए उम्मीदवार की न्यूनतम आयु कितनी होनी चाहिए?

Ans 1. 30

2. 35

3. 20

4. 25

Question ID : 264330115662

Status : Answered

Chosen Option : 2

Section : Part-C-Elementary Mathematics

Q.1 यदि एक बेलन के आधार की त्रिज्या और ऊँचाई क्रमशः 11 cm और 21 cm है, तो बेलन का आयतन क्या होगा? ($\pi = 22/7$ लें)

Ans 1. 8986 cm³

2. 8988 cm³

3. 7988 cm³

4. 7986 cm³

Question ID : 26433075709

Status : Answered

Chosen Option : 4

Q.2 एक निश्चित आयत में, आयत की लंबाई और चौड़ाई का अनुपात 3 : 2 है और क्षेत्रफल 150 cm² है। आयत की परिमाप _____ है।

Ans 1. 30 cm

2. 50 cm

3. 100 cm

4. 25 cm

Question ID : 26433075881

Status : Answered

Chosen Option : 2

Q.3 एक वस्तु पर 20% की छूट एक दूसरी वस्तु पर 25% की छूट के बराबर है। दोनों वस्तुओं का अंकित मूल्य _____ हो सकता है।

Ans 1. ₹100 और ₹120

2. ₹100 और ₹40

3. ₹100 और ₹ 60

4. ₹100 और ₹ 80

Question ID : 26433073010

Status : Answered

Chosen Option : 4

Q.4 20 पुरुष एक कार्य को 5 दिनों में समाप्त कर सकते हैं, जबकि 24 महिलाएं इसे 5 दिनों में समाप्त करती हैं। यदि 30 पुरुष और 12 महिलाएं कार्य को पूरा करने के लिए कार्य करना शुरू करते हैं, तो वे इसे पूरा करने में कितने दिन लेंगे?

- Ans
- 1. 3
 - 2. 5
 - 3. 1.5
 - 4. 2.5

Question ID : 26433076207

Status : Answered

Chosen Option : 4

Q.5 मुकेश ने एक बैंक से वार्षिक आधार पर चक्रवृद्धि किए जाने वाले 5% वार्षिक ब्याज दर से कुछ ऋण लिया। यदि उसने 2 वर्ष के अंत में ₹ 7,05,600 का भुगतान करके अपना ऋण चुकाया, तो उसने कितना ऋण लिया था?

- Ans
- 1. ₹6,40,000
 - 2. ₹5,60,000
 - 3. ₹5,96,000
 - 4. ₹6,68,000

Question ID : 26433080045

Status : Answered

Chosen Option : 1

Q.6 A और B के वेतन का अनुपात 4 : 5 है और उनके व्यय का अनुपात 5 : 6 है। यदि दोनों क्रमशः ₹200 और ₹300 बचाते हैं, तो A का वेतन कितना है?

- Ans
- 1. ₹1,100
 - 2. ₹1,000
 - 3. ₹1,200
 - 4. ₹1,300

Question ID : 26433080217

Status : Answered

Chosen Option : 3

Q.7 A, B और C एक कार्य को क्रमशः 4 दिन, 8 दिन और 16 दिन में पूरा कर सकते हैं। यदि तीनों बारी-बारी से एक-एक दिन इस प्रकार कार्य करते हैं, की A पहले दिन कार्य करता है, B दूसरे दिन कार्य करता है, C तीसरे दिन कार्य करता है और A चौथे दिन कार्य करता है और इसी क्रम में कार्य पूरा करते हैं, तो दिनों की संख्या ज्ञात करें जिसमें 175% कार्य पूरा हो गया है।

- Ans
- 1. 9 दिन
 - 2. 11 दिन
 - 3. 12 दिन
 - 4. 5 दिन

Question ID : 264330116856

Status : Answered

Chosen Option : 2

Q.8 एक स्कूल में लड़के और लड़कियों का अनुपात 7 : 11 है। यदि स्कूल में 3420 छात्र हैं, तो स्कूल में कितनी लड़कियां हैं? (स्कूल में केवल लड़के और लड़कियां हैं।)

- Ans
- 1. 902
 - 2. 760
 - 3. 2090
 - 4. 1330

Question ID : 26433082719

Status : Answered

Chosen Option : 3

Q.9 एक वस्तु की कीमत में 5% और 5% की दो क्रमिक वृद्धि निम्नलिखित में से किस एकल वृद्धि के बराबर हैं?

- Ans
- 1. 10.50%
 - 2. 10.00%
 - 3. 9.75%
 - 4. 10.25%

Question ID : 26433075100

Status : Answered

Chosen Option : 4

Q.10 10000 रुपए के बिल के लिए लागू, 30 प्रतिशत की छूट और 22 प्रतिशत और 8 प्रतिशत की दो क्रमिक छूट के बीच का अंतर है:

- Ans
- 1. 138 रुपए
 - 2. 144 रुपए
 - 3. 124 रुपए
 - 4. 176 रुपए

Question ID : 264330116741

Status : Answered

Chosen Option : 4

Q.11 एक व्यापारी Rs.2 प्रति kg मूल्य वाले 26 kg अपरिष्कृत नमक को Rs.3.60 प्रति kg मूल्य वाले 30 kg अपरिष्कृत नमक के साथ मिलाता है। यदि वह उस मिश्रण को Rs.3 प्रति kg मूल्य पर बेचता है, तो उसका लाभ % ज्ञात कीजिए।

- Ans 1. 5%
 2. 8%
 3. 10%
 4. 3%

Question ID : 26433075494
Status : Answered
Chosen Option : 1

Q.12 यदि A प्रथम 5 प्राकृत संख्याओं का औसत है और B प्रथम 5 ऐसी प्राकृत संख्याओं का औसत है जो पूर्ण वर्ग हैं, तो A और B का औसत क्या है?

- Ans 1. 10
 2. 7
 3. 8
 4. 9

Question ID : 264330116692
Status : Answered
Chosen Option : 4

Q.13 एक व्यापारी को ₹18 प्रति kg और ₹27 प्रति kg वाली दो सामग्रियों को किस अनुपात में मिलाना चाहिए, ताकि मिश्रण की कीमत ₹25 प्रति kg हो जाए?

- Ans 1. 2 : 7
 2. 2 : 5
 3. 3 : 7
 4. 1 : 7

Question ID : 26433079845
Status : Answered
Chosen Option : 1

Q.14 एक बेलनाकार मीनार का व्यास और ऊँचाई क्रमशः 10 मीटर और 21 मीटर है। Rs.8 प्रति वर्गमीटर की दर से इसकी वक्र सतह को रंगने की लागत क्या होगी? ($\pi = 22/7$ लें)

- Ans 1. Rs.5,130
 2. Rs.4,980
 3. Rs.5,490
 4. Rs.5,280

Question ID : 26433075484
Status : Answered
Chosen Option : 4

Q.15 एक व्यक्ति ने Rs.25 प्रति लीटर के क्रय मूल्य पर 25 लीटर दूध खरीदा। अब उसने इसमें 5 लीटर पानी मिला दिया और मिश्रण को क्रय मूल्य पर बेच दिया। व्यक्ति के लिए लाभ प्रतिशत ज्ञात कीजिए।

- Ans
- 1. 10%
 - 2. 20%
 - 3. 15%
 - 4. 25%

Question ID : 26433075941

Status : Answered

Chosen Option : 2

Q.16 एक धनराशि 20% प्रति वर्ष की चक्रवृद्धि ब्याज दर पर दो वर्षों के लिए उधार दी जाती है, जिसमें ब्याज की गणना वार्षिक रूप से चक्रवृद्धि आधार पर की जाती है। यदि ब्याज अर्धवार्षिक रूप से चक्रवृद्धि किया जाता है तो इस धनराशि पर ₹3,133 ब्याज अधिक प्राप्त होगा। धनराशि ज्ञात कीजिए।

- Ans
- 1. ₹1,30,000
 - 2. ₹65,000
 - 3. ₹13,000
 - 4. ₹1,20,000

Question ID : 26433076194

Status : Not Answered

Chosen Option : --

Q.17 एक मोटर साइकिल 25 km/hr की चाल से 50 km की दूरी तय करती है। अगले 50 km की यात्रा के लिए मोटर साइकिल की चाल क्या होनी चाहिए, ताकि पूरी यात्रा की औसत चाल 30 km/hr हो?

- Ans
- 1. $35 \frac{1}{2}$ km/hr
 - 2. $25 \frac{1}{2}$ km/hr
 - 3. $37 \frac{1}{2}$ km/hr
 - 4. $38 \frac{1}{2}$ km/hr

Question ID : 26433081593

Status : Not Answered

Chosen Option : --

Q.18 राजधानी ट्रेन एक विशेष दूरी 'd' के लिए 75 km/h की नियत चाल से एक सीधी रेखा में यात्रा करती है और फिर '2d' के बराबर दूसरी दूरी के लिए 100 km/h की नियत चाल से पहले वाली दिशा में ही यात्रा करती है। पूरी यात्रा के दौरान ट्रेन की औसत चाल ज्ञात करें।

- Ans
- 1. 84 km/h
 - 2. 96 km/h
 - 3. 90 km/h
 - 4. 88 km/h

Question ID : 26433076233
Status : Not Answered
Chosen Option : --

Q.19 वह सबसे बड़ी संख्या कौन सी है, जिससे जब संख्या 1658 और 2038 को विभाजित किया जाता है, तो शेषफल क्रमशः 7 और 6 प्राप्त होता है?

- Ans
- 1. 127
 - 2. 137
 - 3. 112
 - 4. 117

Question ID : 26433087336
Status : Answered
Chosen Option : 1

Q.20 कौन सी संख्या, 2310 के सभी अभाज्य गुणनखंडों के योग से एक कम है?

- Ans
- 1. 33
 - 2. 25
 - 3. 29
 - 4. 27

Question ID : 26433080374
Status : Answered
Chosen Option : 4

Section : Part-D-English

Q.1 Select the most appropriate synonym of the given word.

Culpable

- Ans
- 1. Absolved
 - 2. Vindicated
 - 3. Acquitted
 - 4. Guilty

Question ID : 26433088201
Status : Not Answered
Chosen Option : --

Q.2 Select the most appropriate meaning of the given idiom.

Like oil and water

- Ans
- 1. Two people who are similar to each other
 - 2. Two people who are different from each other
 - 3. Two people who like to work with each other
 - 4. Two people who like each other

Question ID : 26433072674
Status : Not Answered
Chosen Option : --

Q.3 Select the INCORRECTLY spelt word.

- Ans
- 1. Reverberation
 - 2. Ockupation
 - 3. Hallucination
 - 4. Constipation

Question ID : 26433073512
Status : Not Answered
Chosen Option : --

Q.4 Select the most appropriate meaning of the given idiom.

White elephant

- Ans
- 1. A business company in bankruptcy
 - 2. A big lie that is concealed from all
 - 3. Something that costs a lot of money but has no useful purpose
 - 4. Something very rare and precious

Question ID : 26433072361
Status : Not Answered
Chosen Option : --

Q.5 Select the most appropriate synonym of the given word to fill in the blank in the sentence.

Deceive

My mother said, "Don't _____ yourself, Adi. Pay attention to your studies."

- Ans
- 1. shine
 - 2. believe
 - 3. handle
 - 4. trick

Question ID : 26433060558
Status : Not Answered
Chosen Option : --

Q.6 Select the most appropriate ANTONYM of the given word.

Mandatory

- Ans 1. Optional
 2. Unavoidable
 3. Imperative
 4. Requisite

Question ID : 26433073574
Status : Not Answered
Chosen Option : --

Q.7 Select the most appropriate ANTONYM of the given word.

Abolish

- Ans 1. Pontificate
 2. Reverberate
 3. Construct
 4. Eradicate

Question ID : 26433071849
Status : Not Answered
Chosen Option : --

Q.8 Select the most appropriate homophone to fill in the blank.

There was a big hole in the wall which they are trying to close. It took a _____ day for them to do the job.

- Ans 1. while
 2. whale
 3. whole
 4. hold

Question ID : 26433088792
Status : Not Answered
Chosen Option : --

Q.9 Select the most appropriate option to substitute the underlined segment in the given sentence.

Experiences lead you towards the most fascinating stage of your living that you will cherish forever.

- Ans 1. glory of your day
 2. part of your life
 3. set of your routine
 4. feature of your work

Question ID : 26433092913
Status : Not Answered
Chosen Option : --

Q.10 Select the most appropriate ANTONYM of the given word.

Worthless

- Ans 1. Ineffective
 2. Productive
 3. Insult
 4. Kind

Question ID : 26433090789
Status : Not Answered
Chosen Option : --

Q.11 Select the most appropriate option that can substitute the underlined segment in the given sentence. If there is no need to substitute it, select 'No substitution required'.

Nalini was not satisfy with her birthday dress, but she wore it anyway.

- Ans 1. Nalini was not satisfied for her birthday dress
 2. Nalini was not satisfied with her birthday dress
 3. No substitution required
 4. Nalini were not satisfied by her birthday dress

Question ID : 26433091873
Status : Not Answered
Chosen Option : --

Q.12 Select the most appropriate option that can substitute the underlined segment in the given sentence.

The captain feels very proudly as his team has won the match.

- Ans 1. feels very proud
 2. feels much proud
 3. feel very proudly
 4. feels most pride

Question ID : 26433088166
Status : Not Answered
Chosen Option : --

Q.13 Identify the correctly spelt sentence.

- Ans 1. Scientists are looking for alternative energy to save non-renewable resources.
 2. Scientists are looking for alternative energy to save non-reneable resources.
 3. Scientists are looking for allternative energy to save non-renewable resources.
 4. Scientists are looking for alternetive energy to save non-renewable resources.

Question ID : 26433072829
Status : Not Answered
Chosen Option : --

Q.14 Select the most appropriate synonym of the underlined word in the given sentence.

The novelist depicted the moral decay of the society through his novels.

- Ans
- 1. Integrity
 - 2. Conviction
 - 3. Indignation
 - 4. Degeneration

Question ID : 26433071959
Status : Not Answered
Chosen Option : --

Q.15 Parts of the following sentence have been given as options. Select the option that contains an error.

Sam shall went to / the office tomorrow to / get back his original documents / lying with the staff.

- Ans
- 1. the office tomorrow to
 - 2. Sam shall went to
 - 3. get back his original documents
 - 4. lying with the staff

Question ID : 26433088464
Status : Not Answered
Chosen Option : --

Comprehension:

In the following passage, some words have been deleted. Read the passage carefully and select the most appropriate option to fill in each blank.

Amidst all the chaos and suffering caused by the pandemic, there are some positive stories of grit, (1)_____ and bravado. Some businesses understood the needs of the times to make (2)_____ profits. Businesses diversified and (3)_____ successful. Although there are numerous stories of people and business owners (4)_____ due to lockdowns, this small percentage of success stories is like the light at the end of the (5)_____.

SubQuestion No : 16

Q.16 Select the most appropriate option to fill in blank number 1.

- Ans
- 1. silence
 - 2. perspiration
 - 3. persistence
 - 4. laxity

Question ID : 26433091782
Status : Not Answered
Chosen Option : --

Comprehension:

In the following passage, some words have been deleted. Read the passage carefully and select the most appropriate option to fill in each blank.

Amidst all the chaos and suffering caused by the pandemic, there are some positive stories of grit, (1)_____ and bravado. Some businesses understood the needs of the times to make (2)_____ profits. Businesses diversified and (3)_____ successful. Although there are numerous stories of people and business owners (4)_____ due to lockdowns, this small percentage of success stories is like the light at the end of the (5)_____.

SubQuestion No : 17

Q.17 Select the most appropriate option to fill in blank number 2.

- Ans
- 1. slow
 - 2. elite
 - 3. tiny
 - 4. huge

Question ID : 26433091783

Status : Not Answered

Chosen Option : --

Comprehension:

In the following passage, some words have been deleted. Read the passage carefully and select the most appropriate option to fill in each blank.

Amidst all the chaos and suffering caused by the pandemic, there are some positive stories of grit, (1)_____ and bravado. Some businesses understood the needs of the times to make (2)_____ profits. Businesses diversified and (3)_____ successful. Although there are numerous stories of people and business owners (4)_____ due to lockdowns, this small percentage of success stories is like the light at the end of the (5)_____.

SubQuestion No : 18

Q.18 Select the most appropriate option to fill in blank number 3.

- Ans
- 1. are
 - 2. can
 - 3. aren't
 - 4. were

Question ID : 26433091784

Status : Not Answered

Chosen Option : --

Comprehension:

In the following passage, some words have been deleted. Read the passage carefully and select the most appropriate option to fill in each blank.

Amidst all the chaos and suffering caused by the pandemic, there are some positive stories of grit, (1)_____ and bravado. Some businesses understood the needs of the times to make (2)_____ profits. Businesses diversified and (3)_____ successful. Although there are numerous stories of people and business owners (4)_____ due to lockdowns, this small percentage of success stories is like the light at the end of the (5)_____.

SubQuestion No : 19

Q.19 Select the most appropriate option to fill in blank number 4.

- Ans 1. emptying
 2. pushing
 3. suffering
 4. relishing

Question ID : 26433091785

Status : Not Answered

Chosen Option : --

Comprehension:

In the following passage, some words have been deleted. Read the passage carefully and select the most appropriate option to fill in each blank.

Amidst all the chaos and suffering caused by the pandemic, there are some positive stories of grit, (1)_____ and bravado. Some businesses understood the needs of the times to make (2)_____ profits. Businesses diversified and (3)_____ successful. Although there are numerous stories of people and business owners (4)_____ due to lockdowns, this small percentage of success stories is like the light at the end of the (5)_____.

SubQuestion No : 20

Q.20 Select the most appropriate option to fill in blank number 5.

- Ans 1. tunnel
 2. kernel
 3. hill
 4. rope

Question ID : 26433091786

Status : Not Answered

Chosen Option : --

Section : Part-D-Hindi

Q.1 “शायद विद्युत आज घर आ जाए।”
सामान्य भविष्य काल का प्रयोग करते हुए उपरोक्त वाक्य को पुनः लिखिए।

- Ans 1. विद्युत आज घर आएगा।
 2. विद्युत आज घर आ रहा होगा।
 3. विद्युत घर आया था।
 4. विद्युत आज घर आया।

Question ID : 26433066983

Status : Answered

Chosen Option : 1

Q.2 निम्न वाक्य में रेखांकित शब्द के सही विलोम शब्द से रिक्त स्थान की पूर्ति कीजिए।
'सज्जन मृदुभाषी होते हैं लेकिन दुर्जन _____ होते हैं।'

- Ans
- 1. सिग्ध
 - 2. कटुभाषी
 - 3. मधुर
 - 4. ललित

Question ID : 26433066908
Status : Answered
Chosen Option : 2

Q.3 निम्न वाक्य में रेखांकित शब्द-समूह के लिए सर्वाधिक उपयुक्त विकल्प चुनें।
जिसके पास कुछ भी न हो, वह क्या खोएगा।

- Ans
- 1. बेसहारा
 - 2. अभावग्रस्त
 - 3. अकिंचन
 - 4. अपाहिज

Question ID : 26433062280
Status : Answered
Chosen Option : 3

Q.4 'यशोदा' व्यक्तिवाचक संज्ञा शब्द है। इसे जातिवाचक संज्ञा के रूप में प्रयोग करने से कौन सा विकल्प शुद्ध होगा?

- Ans
- 1. कृष्ण की माँ यशोदा थी।
 - 2. यशोदा की तस्वीर मैंने देखी है।
 - 3. यशोदा हमारे घर की लक्ष्मी है।
 - 4. वह यशोदा है।

Question ID : 26433079224
Status : Answered
Chosen Option : 2

Q.5 निम्नलिखित वाक्यों में अशुद्ध वर्तनी वाले वाक्य का चयन कीजिए।

- Ans
- 1. यद्यपि हम अपढ़ हैं तथापि बूद्धु नहीं है।
 - 2. घर में बिस्तर और बर्तन आदि हैं।
 - 3. राम कसरत करता है ताकि वह पहलवान बन जाए।
 - 4. जो धन का भूखा है, वह साधु नहीं है।

Question ID : 26433063070
Status : Answered
Chosen Option : 1

Q.6 निम्न वाक्य में रेखांकित शब्द के लिए विकल्पों में से सर्वाधिक उपयुक्त शब्द कौन सा होगा?
'मैं आज भारी दुखी हूँ।'

- Ans
- 1. बहुत
 - 2. गंभीर
 - 3. सही
 - 4. हल्का

Question ID : 26433066714
Status : Answered
Chosen Option : 1

Q.7 'जिस पर मुकदमा चल रहा हो' वाक्यांश के लिए उचित शब्द बताइए -

- Ans
- 1. मुक्किल
 - 2. कैदी
 - 3. मुजरिम
 - 4. अभियुक्त

Question ID : 26433065907
Status : Answered
Chosen Option : 3

Q.8 निम्नलिखित वाक्यांश के लिए उपयुक्त सार्थक शब्द क्या होगा?
जो व्यर्थ की बातें करता हो

- Ans
- 1. वाचाल
 - 2. जड़
 - 3. कठोर
 - 4. वक्ता

Question ID : 26433065755
Status : Answered
Chosen Option : 4

Q.9 विकल्पों में दिए गए किस वाक्य में निम्न शब्द के सही पर्यायवाची का प्रयोग किया गया है?
मछली

- Ans
- 1. सर्पगंधा पानी में रहती है।
 - 2. मत्स्य जल में रहती है।
 - 3. हस्ति जल में रहती है।
 - 4. इग्लू पानी में ही रहती है।

Question ID : 26433066936
Status : Answered
Chosen Option : 2

Q.10 दिए गए मुहावरे में रेखांकित अंश के स्थान पर सबसे उपयुक्त विकल्प कौन-सा होगा?
'आकाश से गिरा, जमीन पर अटका'

- Ans
- 1. आम
 - 2. अमरूद
 - 3. नारियल
 - 4. खजूर

Question ID : 26433066739

Status : Answered

Chosen Option : 4

Q.11 धरती माता की पूजा करनी चाहिए।
उपरोक्त वाक्य में रेखांकित शब्द के उचित पर्यायवाची शब्द का चयन विकल्पों में से कीजिए।

- Ans
- 1. दारा
 - 2. धीया
 - 3. वसुधा
 - 4. तनया

Question ID : 26433079619

Status : Answered

Chosen Option : 3

Q.12 निम्नलिखित में से किस मुहावरे का अर्थ 'जी दुखाना' है?

- Ans
- 1. छाती पर सांप लोटना
 - 2. छक्के छुड़ाना
 - 3. धज्जियां उड़ाना
 - 4. छाती पर मूंग दलना

Question ID : 26433066810

Status : Answered

Chosen Option : 4

Q.13 निम्न वाक्य में रेखांकित शब्द के विलोम से दिए गए वाक्य का रिक्त स्थान पूर्ण करें।
परिश्रमी व्यक्ति सदैव अपना लक्ष्य प्राप्त करते हैं और _____ व्यर्थ में समय नष्ट करते हैं।

- Ans
- 1. दुष्ट
 - 2. आलसी
 - 3. साहसी
 - 4. वीर

Question ID : 26433085006

Status : Answered

Chosen Option : 2

Q.14 निम्नलिखित वाक्य में त्रुटि पहचानें-
उसने चार मन चावल खरीदी।

- Ans 1. खरीदी
 2. चार
 3. उसने
 4. चावल

Question ID : 26433066820
Status : Answered
Chosen Option : 1

Q.15 निम्नलिखित में से कौन-सा शब्द संबंध कारक चिह्न नहीं है?

- Ans 1. हे
 2. की
 3. के
 4. का

Question ID : 26433085030
Status : Answered
Chosen Option : 1

Comprehension:

प्रश्न संख्या 1 से 5 तक के प्रश्नों का उत्तर दिए गए गद्यांश के आधार पर दिजिए।
तानाशाह जनमानस के 1. _____ को कोई महत्त्व नहीं देता। उसका निर्माण ऊपर से चलता है, किंतु यह लादा हुआ भार-स्वरूप निर्माण हो जाता है। सच्चा राष्ट्र-निर्माण वह है, जो जनमानस की तैयारी पर आधारित रहता है। योजनाएँ शासन और सत्ता बनाएँ, उन्हें कार्यरूप में परिणत भी करें; किंतु साथ ही उन्हें चिर-स्थायी बनाए रखने एवं पूर्णतया उद्देश्य-पूर्ति के लिए यह आवश्यक है कि जनमानस उन योजनाओं के लिए तैयार हो। स्पष्ट शब्दों में हम कह सकते हैं कि सत्ता राष्ट्र-निर्माण रूपी 2. _____ के लिए हल चलाने वाले किसान का कार्य तो कर सकती है, किंतु उसकी भूमि जनमानस को ही बनानी पड़ेगी। अन्यथा फसल या तो हवाई होगी या फिर गमलों की फसल होगी। इस फसल को किस-किस बुभुक्षित के सामने रखेगी शासन-सत्ता? यह प्रश्न 3. _____ में चक्कर ही काटा करता है। यह जनमानस किस प्रकार तैयार होता है? इस प्रश्न का उत्तर आपको समाचार-पत्र देगा। निर्माण-काल में यदि समाचार-पत्र सत्समालोचना से उतरकर ध्वंसात्मक हो गया तो निश्चित रूप से वह 4. _____ हो जाता है, किंतु सत्समालोचना निर्माण के लिए उतनी ही आवश्यक है, जितना निर्माण का समर्थन। जनमानस को तैयार करने के लिए समाचार-पत्र किस नीति को अपनाएँ? यह प्रश्न अपने में एक विवाद लिए हुए है; क्योंकि भिन्न-भिन्न समाचार-पत्र भिन्न-भिन्न नीतियों को उद्देश्य बनाकर 5. _____ होते हैं।

SubQuestion No : 16

Q.16 विकल्पों में से उपयुक्त शब्द के चयन द्वारा गद्यांश के रिक्त स्थान 1 की पूर्ति करें।

- Ans 1. सुषुप्ता
 2. जागरण
 3. आचरण
 4. स्वरूप

Question ID : 26433080845
Status : Answered
Chosen Option : 4

Comprehension:

प्रश्न संख्या 1 से 5 तक के प्रश्नों का उत्तर दिए गए गद्यांश के आधार पर दिजिए।
तानाशाह जनमानस के 1. _____ को कोई महत्त्व नहीं देता। उसका निर्माण ऊपर से चलता है, किंतु यह लादा हुआ भार-स्वरूप निर्माण हो जाता है। सच्चा राष्ट्र-निर्माण वह है, जो जनमानस की तैयारी पर आधारित रहता है। योजनाएँ शासन और सत्ता बनाएँ, उन्हें कार्यरूप में परिणत भी करें; किंतु साथ ही उन्हें चिर-स्थायी बनाए रखने एवं पूर्णतया उद्देश्य-पूर्ति के लिए यह आवश्यक है कि जनमानस उन योजनाओं के लिए तैयार हो। स्पष्ट शब्दों में हम कह सकते हैं कि सत्ता राष्ट्र-निर्माण रूपी 2. _____ के लिए हल चलाने वाले किसान का कार्य तो कर सकती है, किंतु उसकी भूमि जनमानस को ही बनानी पड़ेगी। अन्यथा फसल या तो हवाई होगी या फिर गमलों की फसल होगी। इस फसल को किस-किस बुभुक्षित के सामने रखेगी शासन-सत्ता? यह प्रश्न 3. _____ में चक्कर ही काटा करता है। यह जनमानस किस प्रकार तैयार होता है? इस प्रश्न का उत्तर आपको समाचार-पत्र देगा। निर्माण-काल में यदि समाचार-पत्र सत्समालोचना से उतरकर ध्वंसात्मक हो गया तो निश्चित रूप से वह 4. _____ हो जाता है, किंतु सत्समालोचना निर्माण के लिए उतनी ही आवश्यक है, जितना निर्माण का समर्थन। जनमानस को तैयार करने के लिए समाचार-पत्र किस नीति को अपनाएँ? यह प्रश्न अपने में एक विवाद लिए हुए है; क्योंकि भिन्न-भिन्न समाचार-पत्र भिन्न-भिन्न नीतियों को उद्देश्य बनाकर 5. _____ होते हैं।

SubQuestion No : 17

Q.17 विकल्पों में से उपयुक्त शब्द के चयन द्वारा गद्यांश के रिक्त स्थान 2 की पूर्ति करें।

- Ans 1. फसल
 2. परियोजना
 3. जंगल
 4. मशीन

Question ID : 26433080846

Status : Answered

Chosen Option : 1

Comprehension:

प्रश्न संख्या 1 से 5 तक के प्रश्नों का उत्तर दिए गए गद्यांश के आधार पर दिजिए।
तानाशाह जनमानस के 1. _____ को कोई महत्त्व नहीं देता। उसका निर्माण ऊपर से चलता है, किंतु यह लादा हुआ भार-स्वरूप निर्माण हो जाता है। सच्चा राष्ट्र-निर्माण वह है, जो जनमानस की तैयारी पर आधारित रहता है। योजनाएँ शासन और सत्ता बनाएँ, उन्हें कार्यरूप में परिणत भी करें; किंतु साथ ही उन्हें चिर-स्थायी बनाए रखने एवं पूर्णतया उद्देश्य-पूर्ति के लिए यह आवश्यक है कि जनमानस उन योजनाओं के लिए तैयार हो। स्पष्ट शब्दों में हम कह सकते हैं कि सत्ता राष्ट्र-निर्माण रूपी 2. _____ के लिए हल चलाने वाले किसान का कार्य तो कर सकती है, किंतु उसकी भूमि जनमानस को ही बनानी पड़ेगी। अन्यथा फसल या तो हवाई होगी या फिर गमलों की फसल होगी। इस फसल को किस-किस बुभुक्षित के सामने रखेगी शासन-सत्ता? यह प्रश्न 3. _____ में चक्कर ही काटा करता है। यह जनमानस किस प्रकार तैयार होता है? इस प्रश्न का उत्तर आपको समाचार-पत्र देगा। निर्माण-काल में यदि समाचार-पत्र सत्समालोचना से उतरकर ध्वंसात्मक हो गया तो निश्चित रूप से वह 4. _____ हो जाता है, किंतु सत्समालोचना निर्माण के लिए उतनी ही आवश्यक है, जितना निर्माण का समर्थन। जनमानस को तैयार करने के लिए समाचार-पत्र किस नीति को अपनाएँ? यह प्रश्न अपने में एक विवाद लिए हुए है; क्योंकि भिन्न-भिन्न समाचार-पत्र भिन्न-भिन्न नीतियों को उद्देश्य बनाकर 5. _____ होते हैं।

SubQuestion No : 18

Q.18 विकल्पों में से उपयुक्त शब्द के चयन द्वारा गद्यांश के रिक्त स्थान 3 की पूर्ति करें।

- Ans 1. मस्तिष्क
 2. चित्त
 3. कलेजे
 4. हृदय

Question ID : 26433080847

Status : Answered

Chosen Option : 1

Comprehension:

प्रश्न संख्या 1 से 5 तक के प्रश्नों का उत्तर दिए गए गद्यांश के आधार पर दिजिए।
तानाशाह जनमानस के 1. _____ को कोई महत्त्व नहीं देता। उसका निर्माण ऊपर से चलता है, किंतु यह लादा हुआ भार-स्वरूप निर्माण हो जाता है। सच्चा राष्ट्र-निर्माण वह है, जो जनमानस की तैयारी पर आधारित रहता है। योजनाएँ शासन और सत्ता बनाएँ, उन्हें कार्यरूप में परिणत भी करें; किंतु साथ ही उन्हें चिर-स्थायी बनाए रखने एवं पूर्णतया उद्देश्य-पूर्ति के लिए यह आवश्यक है कि जनमानस उन योजनाओं के लिए तैयार हो। स्पष्ट शब्दों में हम कह सकते हैं कि सत्ता राष्ट्र-निर्माण रूपी 2. _____ के लिए हल चलाने वाले किसान का कार्य तो कर सकती है, किंतु उसकी भूमि जनमानस को ही बनानी पड़ेगी। अन्यथा फसल या तो हवाई होगी या फिर गमलों की फसल होगी। इस फसल को किस-किस बुभुक्षित के सामने रखेगी शासन-सत्ता? यह प्रश्न 3. _____ में चक्कर ही काटा करता है। यह जनमानस किस प्रकार तैयार होता है? इस प्रश्न का उत्तर आपको समाचार-पत्र देगा। निर्माण-काल में यदि समाचार-पत्र सत्समालोचना से उतरकर ध्वंसात्मक हो गया तो निश्चित रूप से वह 4. _____ हो जाता है, किंतु सत्समालोचना निर्माण के लिए उतनी ही आवश्यक है, जितना निर्माण का समर्थन। जनमानस को तैयार करने के लिए समाचार-पत्र किस नीति को अपनाएँ? यह प्रश्न अपने में एक विवाद लिए हुए है; क्योंकि भिन्न-भिन्न समाचार-पत्र भिन्न-भिन्न नीतियों को उद्देश्य बनाकर 5. _____ होते हैं।

SubQuestion No : 19

Q.19 विकल्पों में से उपयुक्त शब्द के चयन द्वारा गद्यांश के रिक्त स्थान 4 की पूर्ति करें।

- Ans
- 1. सफल
 - 2. कर्मनिष्ठ
 - 3. कर्तव्यच्युत
 - 4. कर्मठ

Question ID : 26433080848

Status : Answered

Chosen Option : 4

Comprehension:

प्रश्न संख्या 1 से 5 तक के प्रश्नों का उत्तर दिए गए गद्यांश के आधार पर दिजिए।
तानाशाह जनमानस के 1. _____ को कोई महत्त्व नहीं देता। उसका निर्माण ऊपर से चलता है, किंतु यह लादा हुआ भार-स्वरूप निर्माण हो जाता है। सच्चा राष्ट्र-निर्माण वह है, जो जनमानस की तैयारी पर आधारित रहता है। योजनाएँ शासन और सत्ता बनाएँ, उन्हें कार्यरूप में परिणत भी करें; किंतु साथ ही उन्हें चिर-स्थायी बनाए रखने एवं पूर्णतया उद्देश्य-पूर्ति के लिए यह आवश्यक है कि जनमानस उन योजनाओं के लिए तैयार हो। स्पष्ट शब्दों में हम कह सकते हैं कि सत्ता राष्ट्र-निर्माण रूपी 2. _____ के लिए हल चलाने वाले किसान का कार्य तो कर सकती है, किंतु उसकी भूमि जनमानस को ही बनानी पड़ेगी। अन्यथा फसल या तो हवाई होगी या फिर गमलों की फसल होगी। इस फसल को किस-किस बुभुक्षित के सामने रखेगी शासन-सत्ता? यह प्रश्न 3. _____ में चक्कर ही काटा करता है। यह जनमानस किस प्रकार तैयार होता है? इस प्रश्न का उत्तर आपको समाचार-पत्र देगा। निर्माण-काल में यदि समाचार-पत्र सत्समालोचना से उतरकर ध्वंसात्मक हो गया तो निश्चित रूप से वह 4. _____ हो जाता है, किंतु सत्समालोचना निर्माण के लिए उतनी ही आवश्यक है, जितना निर्माण का समर्थन। जनमानस को तैयार करने के लिए समाचार-पत्र किस नीति को अपनाएँ? यह प्रश्न अपने में एक विवाद लिए हुए है; क्योंकि भिन्न-भिन्न समाचार-पत्र भिन्न-भिन्न नीतियों को उद्देश्य बनाकर 5. _____ होते हैं।

SubQuestion No : 20

Q.20 विकल्पों में से उपयुक्त शब्द के चयन द्वारा गद्यांश के रिक्त स्थान 5 की पूर्ति करें।

- Ans
- 1. रचित
 - 2. मुद्रित
 - 3. प्रकाशित
 - 4. प्रचारित

Question ID : 26433080849

Status : Answered

Chosen Option : 3

Constable GD in CAPFs SSF Rifleman GD in Assam Rifles and Sepoy in NCB Examination 2022

Roll Number	KD Job Updates
Candidate Name	KD Job Updates
Venue Name	iON Digital Zone iDZ Arrah
Exam Date	07/02/2023
Exam Time	9:00 AM - 10:00 AM
Subject	Constable GD Examination 2022

Section : Part-A-General Intelligence and Reasoning

Q.1 D \$ E का अर्थ है 'D, E की पुत्री है'
D @ E का अर्थ है 'D, E की माता है'
D + E का अर्थ है 'D, E का पिता है'
D * E का अर्थ है 'D, E का पति है'
यदि P * T \$ X + Z है, तो P, Z से किस प्रकार संबंधित है?

- Ans
- 1. बहन का पति
 - 2. पुत्री
 - 3. पिता का भाई
 - 4. बहन

Question ID : 26433080430

Status : Answered

Chosen Option : 1

Q.2 कौन-सा अक्षर-समूह दी गई श्रृंखला में प्रश्नचिह्न (?) के स्थान पर आकर श्रृंखला को पूर्ण करेगा?
NUZD, LSXB, ?, HOTX, FMRV

- Ans
- 1. JQVA
 - 2. JQVZ
 - 3. JQWZ
 - 4. JRVZ

Question ID : 26433067951

Status : Answered

Chosen Option : 2

Q.3 सात व्यक्ति P, Q, R, S, T, U और V एक सीधी पंक्ति में उत्तर की ओर मुख करके बैठे हैं। P के दाईं ओर केवल चार व्यक्ति बैठे हैं। P और S के बीच केवल दो व्यक्ति बैठे हैं। Q, V के दाईं ओर तीसरे स्थान पर बैठा है। T, V के दाईं ओर दूसरे स्थान पर बैठा है। U, T के बाईं ओर तीसरे स्थान पर बैठा है। पंक्ति के अंतिम दाएं सिरे पर कौन बैठा है?

- Ans
- 1. S
 - 2. P
 - 3. T
 - 4. R

Question ID : 26433068279

Status : Answered

Chosen Option : 4

Q.4 नीचे दिए गए समीकरण में, किन 2 चिहनों को आपस में बदलने की आवश्यकता है ताकि यह संतुलित हो जाए?

$$\frac{1}{4} \div \frac{1}{16} - 5 + 45 \times 25 = 40$$

- Ans
- 1. × और -
 - 2. + और ×
 - 3. + और -
 - 4. ÷ और ×

Question ID : 26433085656
Status : Answered
Chosen Option : 1

Q.5 निम्नलिखित में से कौन-सा अक्षर-समूह दी गई शृंखला में प्रश्न-चिह्न (?) के स्थान पर आएगा?
AVXE, DSUH, GPRK, ?, MJLQ

- Ans
- 1. JJPM
 - 2. KJON
 - 3. KKON
 - 4. JMON

Question ID : 26433076444
Status : Answered
Chosen Option : 4

Q.6 किस विकल्प में निम्नलिखित शब्दों का वह क्रम दिया गया है, जिस क्रम में वे अंग्रेजी शब्दकोश में आते हैं?

- 1 domestic
- 2 dozen
- 3 double
- 4 doctor
- 5 down

- Ans
- 1. 4,1,3,2,5
 - 2. 4,1,3,5,2
 - 3. 4,3,1,5,2
 - 4. 4,3,1,2,5

Question ID : 26433069310
Status : Answered
Chosen Option : 2

Q.7 तीन कथनों के बाद तीन निष्कर्ष I, II और III दिए गए हैं। कथनों को सत्य मानते हुए, भले ही वे सामान्य रूप से ज्ञात तथ्यों से भिन्न प्रतीत होते हों, निर्धारित करें कि कौन-सा/से निष्कर्ष, कथनों का तार्किक रूप से अनुसरण करता है/करते हैं।

कथन:

सभी मास्क सैनिटाइज़र हैं।

सभी हैंडवाश सैनिटाइज़र हैं।

सभी सैनिटाइज़र दवाएँ हैं।

निष्कर्ष:

I. सभी हैंडवाश दवाएँ हैं।

II. सभी दवाएँ मास्क हैं।

III. कुछ दवाएँ हैंडवाश हैं।

- Ans
- 1. केवल निष्कर्ष I और II अनुसरण करते हैं
 - 2. सभी निष्कर्ष अनुसरण करते हैं
 - 3. केवल निष्कर्ष I और III अनुसरण करते हैं
 - 4. केवल निष्कर्ष II और III अनुसरण करते हैं

Question ID : 26433082316

Status : Answered

Chosen Option : 3

Q.8 एक कूट भाषा में 'sweet fruits' को 're de', 'mango is sweet' को 'de me ke', 'orange is citrus' को 'ke le pe', 'eat orange' को 'pe ne' के रूप में कूटबद्ध किया जाता है। शब्द 'mango' के लिए कूट क्या होगा?

- Ans
- 1. me
 - 2. pe
 - 3. ke
 - 4. de

Question ID : 26433082269

Status : Answered

Chosen Option : 1

Q.9 नीचे दिए गए समीकरण को सही बनाने के लिए किन दो चिन्हों को गणितीय रूप से परस्पर बदलना चाहिए?

$$72 \times 3 + 48 \div 6 - 16 = 296$$

- Ans
- 1. + और -
 - 2. ÷ और -
 - 3. × और +
 - 4. × और ÷

Question ID : 264330117540

Status : Answered

Chosen Option : 4

Q.10 दिए गए विकल्पों में से वह संख्या चुनिए, जो निम्नलिखित श्रृंखला में प्रश्न-चिह्न (?) को प्रतिस्थापित कर सके।
8, 10, 17, 19, 35, 37, ?

Ans 1. 71

2. 47

3. 74

4. 77

Question ID : 26433078918

Status : Not Answered

Chosen Option : --

Q.11 छः मित्र (अमन, बिप्लब, चिरंतन, दिव्या, एलिजाबेथ और फिरोज) एक वृत्ताकार मेज के परितः मेज के केंद्र की ओर मुख करके बैठे हैं। अमन, बिप्लब के बाईं ओर तीसरे स्थान पर बैठा है। चिरंतन, अमन के ठीक बगल में है। एलिजाबेथ, दिव्या के दाईं ओर दूसरे स्थान पर बैठी है। चिरंतन, दिव्या के ठीक बगल में नहीं है। बिप्लब के बाईं ओर ठीक बगल में कौन बैठा है?

Ans 1. चिरंतन

2. दिव्या

3. एलिजाबेथ

4. फिरोज

Question ID : 26433092771

Status : Answered

Chosen Option : 2

Q.12 उस विकल्प का चयन करें जो तीसरे शब्द से उसी प्रकार संबंधित है, जिस प्रकार दूसरा शब्द पहले शब्द से संबंधित है।
(शब्दों को अर्थपूर्ण शब्दों के रूप में माना जाना चाहिए और शब्द में अक्षरों की संख्या/व्यंजनों की संख्या/स्वरों की संख्या के आधार पर उन्हें एक-दूसरे से संबंधित नहीं किया जाना चाहिए)
मकड़ी : मकड़ी का जाला :: घोड़ा : ?

Ans 1. कारवान

2. हवेली

3. अस्तबल

4. गुफा

Question ID : 26433082575

Status : Answered

Chosen Option : 3

Q.13 दी गई आकृति के सही दर्पण प्रतिबिम्ब का चयन करें जब दर्पण को MN पर रखा जाए जैसा कि नीचे दर्शाया गया है।



Ans

- ✗ 1.
- ✓ 2.
- ✗ 3.
- ✗ 4.

Question ID : 26433085550

Status : Answered

Chosen Option : 2

Q.14 दिए गए विकल्पों में से वह संख्या चुनिए, जो निम्नलिखित श्रृंखला में प्रश्न-चिह्न (?) को प्रतिस्थापित कर सके।
14, 12, 27, 25, 53, 51, ?

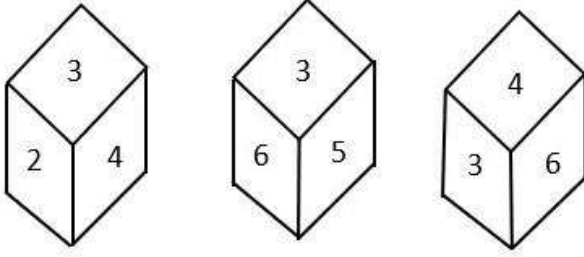
- Ans
- ✓ 1. 105
 - ✗ 2. 180
 - ✗ 3. 150
 - ✗ 4. 108

Question ID : 26433078926

Status : Not Answered

Chosen Option : --

Q.15 एक ही पासे की तीन अलग-अलग स्थितियों को दर्शाया गया है। '3' दर्शाने वाले फलक के विपरीत फलक की संख्या ज्ञात कीजिए।



- Ans
- 1. 2
 - 2. 1
 - 3. 4
 - 4. 5

Question ID : 26433090080

Status : Answered

Chosen Option : 2

Q.16 उस विकल्प का चयन करें जो तीसरी संख्या से उसी प्रकार संबंधित है जिस प्रकार दूसरी संख्या पहली संख्या से संबंधित है और छठवीं संख्या पाँचवीं संख्या से संबंधित है।
42 : 91 :: 84 : ? :: 149 : 198

- Ans
- 1. 128
 - 2. 133
 - 3. 142
 - 4. 131

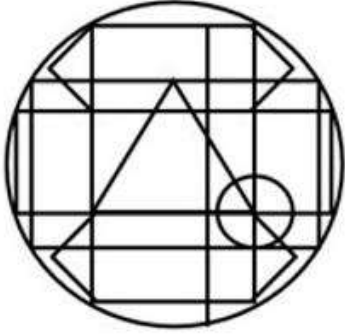
Question ID : 26433069189

Status : Not Answered

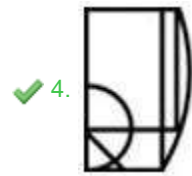
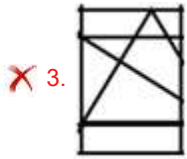
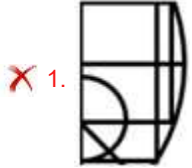
Chosen Option : --

Q.17 उस विकल्प-आकृति का चयन कीजिए, जो प्रस्तुत आकृति में अंतर्निहित है।

(घुमाना अनुमन्य नहीं है)



Ans

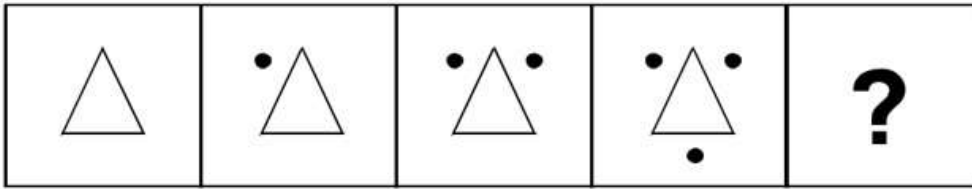


Question ID : 26433076577

Status : Answered

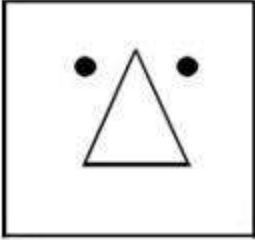
Chosen Option : 1

Q.18 दिए गए विकल्पों में से उस आकृति का चयन करें जो निम्नलिखित श्रृंखला में प्रश्नवाचक चिह्न (?) का स्थान ले सकती है।




Ans


✗ 1.



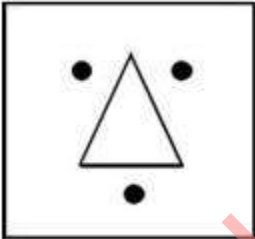
✓ 2.



✗ 3.



✗ 4.



Question ID : 26433080487

Status : Answered

Chosen Option : 2

Q.19 उस विकल्प का चयन करें जो पाँचवें पद से उसी तरह से संबंधित है, जिस तरह से दूसरा पद पहले पद से संबंधित है और चौथा पद तीसरे पद से संबंधित है।

PREPARE : ERAPERP :: COMPARE : ERAPMOC :: DESPAIR : ?

Ans ✗ 1. RIASPED

✗ 2. SPAIRDE

✗ 3. ESPAIRD

✓ 4. RIAPSED

Question ID : 26433067264

Status : Answered

Chosen Option : 4

Q.20 एक निश्चित कूट भाषा में, 'TRIFLED' को 'YQNEQDI' और 'BRIEF' को 'GQNDK' के रूप में लिखा जाता है। उसी कूट भाषा में 'FALTER' को किस प्रकार से लिखा जाएगा?

- Ans
- 1. KZQSJQ
 - 2. KYQTHP
 - 3. KZQSHR
 - 4. KYPSJQ

Question ID : 26433069465
Status : Answered
Chosen Option : 1

Section : Part-B-General Knowledge and General awareness

Q.1 सुल्तान जोहोर कप किस खेल से संबंधित है?

- Ans
- 1. क्रिकेट
 - 2. हॉकी
 - 3. फुटबॉल
 - 4. बास्केटबॉल

Question ID : 264330116280
Status : Not Answered
Chosen Option : --

Q.2 निम्नलिखित में से कौन सी एक कायांतरित चट्टान है?

- Ans
- 1. शैल
 - 2. ग्रेनाइट
 - 3. बलुआ पत्थर
 - 4. कार्टजाइट

Question ID : 26433089663
Status : Answered
Chosen Option : 1

Q.3 निम्नलिखित में से कौन-सा एक मौलिक कर्तव्य है?

- Ans
- 1. अधिवक्ताओं की गरिमा के लिए अपमानजनक प्रथाओं का त्याग करना
 - 2. किसी भी प्रशासनिक अधिकारी की गरिमा के लिए अपमानजनक प्रथाओं का त्याग करना
 - 3. पुरुषों की गरिमा के लिए अपमानजनक प्रथाओं का त्याग करना
 - 4. ऐसी प्रथाओं का त्याग करे जो स्त्रियों के सम्मान के वीरुध हैं

Question ID : 26433089953
Status : Not Answered
Chosen Option : --

Q.4 The _____ of a country is measured by the development of manufacturing industries.

- Ans
- 1. economic strength
 - 2. debt
 - 3. expenditure
 - 4. liability

Question ID : 264330115405
Status : Answered
Chosen Option : 1

Q.5 निम्नलिखित में से कौन सी गतिविधि अर्थव्यवस्था के तृतीयक क्षेत्र से संबंधित है?

- Ans
- 1. कपड़ा बुनना
 - 2. ऑटोमोबाइल निर्माण
 - 3. मत्स्यन
 - 4. भंडारण

Question ID : 264330115574
Status : Answered
Chosen Option : 2

Q.6 निम्नलिखित में से कौन जून 2022 में सूरमा, त्रिपुरा की विधान सभा के सदस्य बने?

- Ans
- 1. स्वप्ना दास पॉल
 - 2. सुदीप रॉय बर्मन
 - 3. राजनाथ सिंह
 - 4. साधन पांडे

Question ID : 264330114941
Status : Answered
Chosen Option : 2

Q.7 अनबुझा चूना कैसे निर्मित होता है?

- Ans
- 1. कैल्शियम ऑक्साइड और जल के दोहरे अपघटन द्वारा
 - 2. कैल्शियम ऑक्साइड और कैल्शियम कार्बोनेट के विस्थापन द्वारा
 - 3. कैल्शियम कार्बोनेट और कैल्शियम हीड्राक्साइड के अपघटन द्वारा
 - 4. तापन पर कैल्शियम कार्बोनेट के कैल्शियम ऑक्साइड और कार्बन डाइऑक्साइड में अपघटन द्वारा

Question ID : 26433087846
Status : Not Answered
Chosen Option : --

Q.8 निम्नलिखित में से किस बिहू को रोंगाली बिहू के नाम से भी जाना जाता है?

- Ans
- 1. माघ बिहू
 - 2. भोगली बिहू
 - 3. बोहाग बिहू
 - 4. कोंगाली बिहू

Question ID : 264330115117

Status : Not Answered

Chosen Option : --

Q.9 लोक नृत्य 'चेराव' मुख्य रूप से किस भारतीय राज्य से संबंधित है?

- Ans
- 1. ओडिशा
 - 2. बिहार
 - 3. मिजोरम
 - 4. गोवा

Question ID : 26433072925

Status : Answered

Chosen Option : 3

Q.10 निवल मूल्य = परिसंपत्तियां - _____

- Ans
- 1. मौजूदा परिसंपत्तियां
 - 2. देयताएं
 - 3. हिस्सेदारी
 - 4. बही ऋण

Question ID : 264330115327

Status : Answered

Chosen Option : 4

Q.11 उत्तर प्रदेश के निम्नलिखित में से किस पूर्व मुख्यमंत्री का अक्टूबर 2022 में निधन हो गया?

- Ans
- 1. विजय कश्यप
 - 2. नारायण दत्त तिवारी
 - 3. मुलायम सिंह यादव
 - 4. कल्याण सिंह

Question ID : 264330115030

Status : Answered

Chosen Option : 3

Q.12 भारत में कौन से दो सामाजिक समूह हैं जो गरीबी के प्रति अत्यन्त संवेदनशील हैं?

- Ans
- 1. सवर्ण और ब्राह्मण
 - 2. अनुसूचित जनजाति और अनुसूचित जाति
 - 3. अनुसूचित जनजाति और अन्य पिछड़ा वर्ग
 - 4. ब्राह्मण और अनुसूचित जाति

Question ID : 264330116066

Status : Answered

Chosen Option : 2

Q.13 हर्षवर्धन ने नर्मदा नदी पार करके दक्कन की ओर बढ़ने की कोशिश की तब चालुक्य नरेश, _____ ने उन्हें रोक दिया।

- Ans
- 1. पुलकेशिन द्वितीय
 - 2. समुद्रगुप्त प्रथम
 - 3. चंद्रगुप्ता
 - 4. समुद्रगुप्त द्वितीय

Question ID : 264330115459

Status : Not Answered

Chosen Option : --

Q.14 2016 में भारत सरकार द्वारा किन करेंसी नोटों का विमुद्रीकरण किया गया था?

- Ans
- 1. ₹500 and ₹100
 - 2. ₹100 and ₹1,000
 - 3. ₹500 and ₹1,000
 - 4. ₹500 and ₹50

Question ID : 26433072953

Status : Answered

Chosen Option : 3

Q.15 _____ भगोड़े आर्थिक अपराधियों को भारतीय अदालतों के अधिकार क्षेत्र से बाहर रहकर भारत में कानून की प्रक्रिया से बचने से रोकने के उपाय प्रदान करता है।

- Ans
- 1. विदेशी आर्थिक अपराधी अधिनियम, 2018
 - 2. आर्थिक अपराधी अधिनियम, 2018
 - 3. भगोड़ा अपराधी अधिनियम, 2015
 - 4. भगोड़ा आर्थिक अपराधी अधिनियम, 2018

Question ID : 264330116212

Status : Not Attempted and Marked For Review

Chosen Option : --

Q.16 दिए गए कथनों में से कौन सा सही है?
I. अम्ल लाल लिटमस को नीला कर देता है।
II. अम्ल स्वाद में कड़वे होते हैं।

- Ans 1. ना तो I ना तो II
 2. केवल I
 3. केवल II
 4. I तथा II दोनों

Question ID : 264330115245
Status : Answered
Chosen Option : 4

Q.17 पहली निर्वाचित संसद निम्नलिखित में से किस वर्ष में अस्तित्व में आई थी?

- Ans 1. 1949
 2. 1955
 3. 1952
 4. 1950

Question ID : 26433086844
Status : Answered
Chosen Option : 4

Q.18 हीरो इंडियन सुपर लीग (ISL) के उद्घाटन मैच का विजेता ATK था, जो _____ में स्थित एक फुटबॉल क्लब है।

- Ans 1. कोलकाता
 2. बेंगलुरु
 3. चेन्नई
 4. मुंबई

Question ID : 26433089928
Status : Answered
Chosen Option : 2

Q.19 गोपिका वर्मा ने _____ के लिए 2018 संगीत नाटक अकादमी पुरस्कार जीता।

- Ans 1. भरतनाट्यम
 2. ओड़िसी
 3. मणिपुरी
 4. मोहिनीअट्टम

Question ID : 264330115866
Status : Not Answered
Chosen Option : --

Q.20 वे 1893 में शिकागो में हुई विश्व धर्म संसद में दिए गए उनके भाषण के लिए लोकप्रिय हैं। यहां 'वे' किसे कहा जा रहा है?

- Ans
- 1. केशव चन्द्र सेन
 - 2. स्वामी दयानंद सरस्वती
 - 3. महात्मा गांधी
 - 4. स्वामी विवेकानंद

Question ID : 264330115717

Status : Answered

Chosen Option : 2

Section : Part-C-Elementary Mathematics

Q.1 एक मकान का वर्तमान मूल्य ₹46,40,000 है। यदि इसके मूल्य में 5% प्रतिवर्ष की दर से अवमूल्यन होता है, तो 3 वर्ष बाद मकान का मूल्य क्या होगा?

- Ans
- 1. ₹39,78,220
 - 2. ₹44,08,000
 - 3. ₹41,87,600
 - 4. ₹40,70,520

Question ID : 26433087384

Status : Answered

Chosen Option : 4

Q.2 एक पेंटिंग की क्रीमत 140000 रुपए से बढ़कर 182000 रुपए हो गई। पेंटिंग की क्रीमत में प्रतिशत वृद्धि है:

- Ans
- 1. 50 प्रतिशत
 - 2. 10 प्रतिशत
 - 3. 30 प्रतिशत
 - 4. 40 प्रतिशत

Question ID : 264330116816

Status : Answered

Chosen Option : 3

Q.3 10%, 5% और $3\frac{1}{2}\%$ की क्रमिक छूटों के बराबर एक एकल छूट _____ होगी।

- Ans
- 1. 14.5%
 - 2. 16.9475%
 - 3. 17.4925%
 - 4. 18.5%

Question ID : 26433080316

Status : Answered

Chosen Option : 3

Q.4 चक्रवृद्धि ब्याज की किस दर से कोई धनराशि 3 वर्षों में वार्षिक रूप से चक्रवृद्धि होते हुए 3.375 गुनी हो जाती है?

- Ans 1. 50%
2. 150%
3. 100%
4. 200%

Question ID : 26433065091

Status : Answered

Chosen Option : 1

Q.5 एक थोक व्यापारी के पास 1000 kg चीनी है, जिसका एक भाग वह 6% लाभ पर और शेष 12% लाभ पर बेचता है। उसका लाभ कुल मिलाकर 10% है। 6% लाभ पर बेची गई मात्रा कितनी है? (दो दशमलव तक विचार करें)

- Ans 1. 666.66 kg
2. 333.33 kg
3. 663.66 kg
4. 336.33 kg

Question ID : 26433076269

Status : Answered

Chosen Option : 2

Q.6 राम और रमेश दो किलोमीटर दौड़ते हैं और राम 40 सेकंड से जीत जाता है। राम और नरेश दो किलोमीटर दौड़ते हैं और राम 650 मीटर से जीत जाता है। जब रमेश और नरेश समान दूरी दौड़ते हैं, तो रमेश 25 सेकंड से जीत जाता है। राम द्वारा दो किलोमीटर दौड़ने में लिया गया समय ज्ञात कीजिए।

- Ans 1. 2 मिनट, 35 सेकंड
2. 3 मिनट, 35 सेकंड
3. 3 मिनट, 15 सेकंड
4. 2 मिनट, 15 सेकंड

Question ID : 26433065003

Status : Not Answered

Chosen Option : --

Q.7 यदि एक ठोस लम्ब वृत्तीय शंकु का आयतन $v \text{ cm}^3$ है और इसकी ऊँचाई $h \text{ cm}$ है, तो शंकु की त्रिज्या _____ है।

- Ans
- 1. $\frac{3v}{\pi h^2} \text{ cm}$
 - 2. $\sqrt{\frac{v}{\pi h}} \text{ cm}$
 - 3. $\frac{v}{\pi h^2} \text{ cm}$
 - 4. $\sqrt{\frac{3v}{\pi h}} \text{ cm}$

Question ID : 26433079973

Status : Answered

Chosen Option : 4

Q.8 ₹936 को P, Q और R में गलती से $\frac{1}{2} : \frac{1}{3} : \frac{1}{4}$ के बजाय 2 : 3 : 4 के अनुपात में विभाजित कर दिया जाता है। वितरण में R का लाभ _____ है।

- Ans
- 1. ₹24
 - 2. ₹200
 - 3. ₹216
 - 4. ₹124

Question ID : 26433073110

Status : Answered

Chosen Option : 2

Q.9 निम्नलिखित को सरल कीजिए।
30% of [{ (820% of 40) - 28 }] % of 600

- Ans
- 1. 200
 - 2. 540
 - 3. 500
 - 4. 250

Question ID : 26433075342

Status : Answered

Chosen Option : 2

Q.10 वह सबसे छोटी धनात्मक संख्या कौन सी है, जिसे 12 और 21 दोनों में से घटाए जाने पर उनका तृतीयानुपात 36 होता है?

- Ans
- 1. 5
 - 2. 4
 - 3. 3
 - 4. 2

Question ID : 26433080118

Status : Answered

Chosen Option : 3

Q.11 एक व्यक्ति 2 km/h, 3 km/h और 4 km/h की चाल से तीन समान दूरियाँ तय करता है और कुल 52 मिनट का समय लेता है। कुल दूरी ज्ञात कीजिए।

- Ans
- 1. 2.5 km
 - 2. 2.7 km
 - 3. 2.8 km
 - 4. 2.4 km

Question ID : 26433076371

Status : Answered

Chosen Option : 4

Q.12 A, B और C क्रमशः $5 \frac{m}{s}$, $3 \frac{m}{s}$ और $8 \frac{m}{s}$ की चाल से दौड़ते हैं। वे एक ही समय पर एक ही बिंदु से दौड़ना शुरू करते हैं। कुछ समय बाद, यह पाया गया कि A और C के बीच की दूरी 6 m है। A और B के बीच की दूरी ज्ञात कीजिए।

- Ans
- 1. 2 m
 - 2. 5 m
 - 3. 4 m
 - 4. 3 m

Question ID : 26433071338

Status : Answered

Chosen Option : 3

Q.13 16 के घन और 48 के वर्ग का महत्तम समापवर्तक ज्ञात करें।

- Ans
- 1. 256
 - 2. 128
 - 3. 512
 - 4. 768

Question ID : 264330116658

Status : Answered

Chosen Option : 1

Q.14 बलवेंद्र सीसीटीवी कैमरे की बिक्री पर पहले 9% और 4% की दो क्रमिक छूट देता है और फिर वह Rs.268 की नकद छूट भी देता है। यदि सीसीटीवी कैमरे का अंकित मूल्य Rs.5,000 है, तो किसी ग्राहक के लिए सीसीटीवी कैमरे का अंतिम मूल्य क्या होगा?

- Ans
- 1. Rs.4,000
 - 2. Rs.4,636
 - 3. Rs.4,368
 - 4. Rs.4,100

Question ID : 26433080319

Status : Answered

Chosen Option : 4

Q.15 एक बेईमान दुकानदार क्रय मूल्य पर चावल बेचता है लेकिन वह 1000 ग्राम की जगह 925 ग्राम के गलत वजन का उपयोग करता है। उसका लाभ प्रतिशत ज्ञात कीजिए।

- Ans 1. 8.11 प्रतिशत
 2. 5.3 प्रतिशत
 3. 6.01 प्रतिशत
 4. 7.0 प्रतिशत

Question ID : 26433074336

Status : Answered

Chosen Option : 1

Q.16 एक ठोस लम्ब वृत्तीय बेलन, जिसके आधार की त्रिज्या 22.5 cm है और जिसकी ऊँचाई 24 cm है, को पिघलाकर एक लंब वृत्तीय शंकु के आकार में ढाला जाता है जिसके आधार की त्रिज्या 36 cm है। इस शंकु की ऊँचाई कितनी होगी?

- Ans 1. 28.125 cm
 2. 30.25 cm
 3. 26.225 cm
 4. 29.105 cm

Question ID : 26433075301

Status : Answered

Chosen Option : 1

Q.17 24 पुरुष एक काम को 9 दिनों में पूरा करते हैं। उनके काम शुरू करने के 3 दिन बाद, 8 और पुरुष उनके साथ जुड़ गए। उन सभी को शेष कार्य को पूरा करने में कितने दिन लगेंगे?

- Ans 1. 5.5
 2. 9
 3. 4.5
 4. 4

Question ID : 26433076211

Status : Answered

Chosen Option : 3

Q.18 यदि चाय के मूल्य में 20% की वृद्धि की जाती है, तो चाय की खपत में कितने प्रतिशत की कमी की जानी चाहिए, ताकि चाय पर खर्च में वृद्धि न हो?

- Ans 1. $16\frac{2}{3}\%$
 2. $33\frac{1}{3}\%$
 3. 20%
 4. 25%

Question ID : 26433075138

Status : Answered

Chosen Option : 1

Q.19 एक वस्तु 2.6 मिनट में 15 m और अगले 26 km को 30 km /h की चाल से चलती है। इस पूरी क्रिया के लिए इसकी औसत चाल (m/sec में) ज्ञात कीजिए।

- Ans
- 1. 8.59
 - 2. 2.92
 - 3. 7.94
 - 4. 3.76

Question ID : 26433080002

Status : Not Answered

Chosen Option : --

Q.20 अमन एक कार्य को 78 दिनों में कर सकता है। राम यह कार्य 39 दिनों में कर सकता है। अमन ने अकेले काम शुरू किया। कितने दिनों के बाद राम को उसके साथ जुड़ना चाहिए, ताकि काम 39 दिनों में समाप्त हो जाए?

- Ans
- 1. 39/2 दिन
 - 2. 17/2 दिन
 - 3. 77/2 दिन
 - 4. 27/2 दिन

Question ID : 264330116896

Status : Not Answered

Chosen Option : --

Section : Part-D-English

Q.1 Select the most appropriate option to fill in the blanks in the given sentence.

Shelley is good at _____ and also has a new _____ of the Oxford dictionary launched last month.

- Ans
- 1. addition; edition
 - 2. edition; addition
 - 3. edition; edition
 - 4. addition; addition

Question ID : 26433084774

Status : Answered

Chosen Option : 1

Q.2 Select the most appropriate meaning of the given idiom.

Has bigger fish to fry

- Ans
- 1. Has easier plans to solve the issue
 - 2. Has better choice of food
 - 3. Has greater plans to discuss
 - 4. Has more important work to do

Question ID : 26433073494

Status : Answered

Chosen Option : 4

Q.3 Select the most appropriate synonym of the given word.
Swindle

- Ans**
- 1. Threat
 - 2. Observation
 - 3. Fraud
 - 4. Ride

Question ID : 26433086487
Status : Not Answered
Chosen Option : --

Q.4 Identify the spelling error in the given sentence and select the option that rectifies the error.

He dared to compete against the experienced boxer.

- Ans**
- 1. deired
 - 2. experianced
 - 3. compete
 - 4. ageinst

Question ID : 26433060320
Status : Answered
Chosen Option : 3

Q.5 Select the most appropriate ANTONYM of the given word.
Escalate

- Ans**
- 1. Diminish
 - 2. Enlarge
 - 3. Corrupt
 - 4. Intensify

Question ID : 26433084751
Status : Answered
Chosen Option : 1

Q.6 Select the most appropriate meaning of the given idiom.

A cakewalk

- Ans**
- 1. An easy task or victory
 - 2. An unexpected twist
 - 3. A precious memory to cherish
 - 4. A stylish walk

Question ID : 26433073484
Status : Answered
Chosen Option : 1

Q.7 Select the most appropriate synonym of the word given in the bracket to fill in the blank.

Rohan _____ (insufficient) the compassion required to be a doctor.

- Ans
- 1. voided
 - 2. oversized
 - 3. lacked
 - 4. was deprived

Question ID : 26433084620
Status : Answered
Chosen Option : 3

Q.8 Select the correct word for the blanks in the given sentence.

I need a blue _____ for writing and my brother runs a _____ for dogs.

- Ans
- 1. herd
 - 2. shelter
 - 3. pen
 - 4. nib

Question ID : 26433060531
Status : Answered
Chosen Option : 3

Q.9 Select the most appropriate ANTONYM of the given word.

Follow

- Ans
- 1. Supplant
 - 2. Displace
 - 3. Predate
 - 4. Ensnare

Question ID : 26433084599
Status : Answered
Chosen Option : 4

Q.10 Select the most appropriate option to fill in the blank.

When the separatist tendencies become very active, the unity of any nation can be in _____.

- Ans
- 1. docile
 - 2. solitaire
 - 3. negotiation
 - 4. peril

Question ID : 26433092407
Status : Not Answered
Chosen Option : --

Q.11 Select the most appropriate option that can substitute the underlined segment in the given sentence.

The library is the right place to write an article from a journal.

- Ans
- 1. to fill an article
 - 2. to correct an article
 - 3. to find the article
 - 4. to read an article

Question ID : 26433088986
Status : Answered
Chosen Option : 4

Q.12 Select the most appropriate synonym of the given word.

Calamity

- Ans
- 1. Windfall
 - 2. Prosperity
 - 3. Disaster
 - 4. Fortune

Question ID : 26433074044
Status : Answered
Chosen Option : 3

Q.13 Select the correct spelling of the underlined word in the following sentence.

You can eat anything you like accept the rice pudding.

- Ans
- 1. accede
 - 2. assess
 - 3. except
 - 4. accept

Question ID : 26433072369
Status : Answered
Chosen Option : 3

Q.14 Select the most appropriate option that can substitute the underlined segment in the given sentence.

The treaty was signed by both the parties to retain the status-quo.

- Ans
- 1. current situation
 - 2. unnatural behaviour
 - 3. class of societies
 - 4. previous condition

Question ID : 26433099875
Status : Not Answered
Chosen Option : --

Q.15 Parts of the following sentence have been given as options. One of them may contain an error. Select the part that contains the error from the given options. If you don't find any error, mark 'No error' as your answer.

Last night I played my guitar loudly and the neighbours complain.

- Ans
- 1. No error
 - 2. Last night I played
 - 3. my guitar loudly
 - 4. and the neighbours complain

Question ID : 26433090486

Status : Answered

Chosen Option : 4

Comprehension:

In the following passage, some words have been deleted. Read the passage carefully and select the most appropriate option to fill in each blank.

Looking at the stars is a glimpse (1) _____ history. Some of the things we see (2) _____ millions of light-years (3) _____. Everything in the universe (4) _____ a past but stars don't try to hide it. They just (5) _____ shining, for everyone to see.

SubQuestion No : 16

Q.16 Select the most appropriate option to fill in blank number 1.

- Ans
- 1. besides
 - 2. up
 - 3. among
 - 4. of

Question ID : 26433089313

Status : Answered

Chosen Option : 4

Comprehension:

In the following passage, some words have been deleted. Read the passage carefully and select the most appropriate option to fill in each blank.

Looking at the stars is a glimpse (1) _____ history. Some of the things we see (2) _____ millions of light-years (3) _____. Everything in the universe (4) _____ a past but stars don't try to hide it. They just (5) _____ shining, for everyone to see.

SubQuestion No : 17

Q.17 Select the most appropriate option to fill in blank number 2.

- Ans
- 1. flush
 - 2. are
 - 3. grow
 - 4. separate

Question ID : 26433089314

Status : Answered

Chosen Option : 3

Comprehension:

In the following passage, some words have been deleted. Read the passage carefully and select the most appropriate option to fill in each blank.

Looking at the stars is a glimpse (1) _____ history. Some of the things we see (2) _____ millions of light-years (3) _____. Everything in the universe (4) _____ a past but stars don't try to hide it. They just (5) _____ shining, for everyone to see.

SubQuestion No : 18

Q.18 Select the most appropriate option to fill in blank number 3.

Ans 1. between

2. away

3. close

4. now

Question ID : 26433089315

Status : Answered

Chosen Option : 2

Comprehension:

In the following passage, some words have been deleted. Read the passage carefully and select the most appropriate option to fill in each blank.

Looking at the stars is a glimpse (1) _____ history. Some of the things we see (2) _____ millions of light-years (3) _____. Everything in the universe (4) _____ a past but stars don't try to hide it. They just (5) _____ shining, for everyone to see.

SubQuestion No : 19

Q.19 Select the most appropriate option to fill in blank number 4.

Ans 1. can

2. has

3. should

4. have

Question ID : 26433089316

Status : Answered

Chosen Option : 2

Comprehension:

In the following passage, some words have been deleted. Read the passage carefully and select the most appropriate option to fill in each blank.

Looking at the stars is a glimpse (1) _____ history. Some of the things we see (2) _____ millions of light-years (3) _____. Everything in the universe (4) _____ a past but stars don't try to hide it. They just (5) _____ shining, for everyone to see.

SubQuestion No : 20

Q.20 Select the most appropriate option to fill in blank number 5.

- Ans
- 1. part
 - 2. blight
 - 3. keep
 - 4. force

Question ID : 26433089317

Status : Answered

Chosen Option : 3

Section : Part-D-Hindi

Q.1 'खाक में मिलाना' मुहावरे का सही अर्थ क्या है?

- Ans
- 1. मिट्टी में मिलाना
 - 2. नष्ट करना
 - 3. जला देना
 - 4. प्रमाण नष्ट कर देना

Question ID : 26433065916

Status : Not Answered

Chosen Option : --

Q.2 'अमृत' का पर्याय निम्न में से क्या है?

- Ans
- 1. पीयूष
 - 2. अभ्र
 - 3. हय
 - 4. तोय

Question ID : 26433062914

Status : Not Answered

Chosen Option : --

Q.3 निम्नलिखित विकल्पों में से 'जो किसी व्यक्ति या संस्था का प्रतिनिधित्व करता हो' वाक्यांश के लिए एक सार्थक शब्द क्या होगा?

- Ans
- 1. प्रतिनिधि
 - 2. कर्तव्यपरायण
 - 3. उत्तरदायी
 - 4. निष्ठावान

Question ID : 26433062538

Status : Not Answered

Chosen Option : --

Q.4 'हमें गरीब लोगों की मदद करनी चाहिए।' ऊपर दिए वाक्य में रेखांकित स्थान पर आने वाले शब्द का पर्यायवाची क्या होगा?

- Ans
- 1. सहायता
 - 2. परोपकार
 - 3. अवहेलना
 - 4. दया

Question ID : 26433085104
Status : Not Answered
Chosen Option : --

Q.5 निम्न वाक्य में रेखांकित शब्द के विलोम शब्द से रिक्त स्थान की पूर्ति कीजिए।
'कुरूप' होना केवल बाहरी गुण है जबकि _____ होना आंतरिक।

- Ans
- 1. मलिन
 - 2. धनवान
 - 3. धैर्य
 - 4. सुंदर

Question ID : 26433085073
Status : Not Answered
Chosen Option : --

Q.6 निम्नलिखित विकल्पों में से किस एक वाक्य में संख्यावाचक विशेषण का उचित प्रयोग नहीं किया गया है?

- Ans
- 1. मैं शौभाग्यशाली हूँ, जिसका ऐसा मित्र है।
 - 2. गिलास में आधा पानी बचा है।
 - 3. कार में तीन लोग थे।
 - 4. ट्रेन में पचास आदमी थे।

Question ID : 26433062970
Status : Not Answered
Chosen Option : --

Q.7 'खगोल' शब्द का विलोम क्या होगा?

- Ans
- 1. पाताल
 - 2. पृथ्वी
 - 3. भूगोल
 - 4. पहाड़

Question ID : 26433067095
Status : Not Answered
Chosen Option : --

Q.8 निम्न विकल्पों में से शुद्ध वाक्य का चयन कीजिए।

- Ans
- 1. मैंने आज भात नहीं खाया हूँ।
 - 2. विश्वेश्वर ने दो मकान खरीदे।
 - 3. पत्नी ने एक पत्र लिखी।
 - 4. वह बैठे और एक कहानी सुनाया।

Question ID : 26433063076

Status : Not Answered

Chosen Option : --

Q.9 निम्न वाक्य में रेखांकित शब्द को विकल्पों में दिए गए शब्दों में से सर्वाधिक उपयुक्त शब्द से बदलें।
समालोचक साहित्य का अन्वेषण करते हैं।

- Ans
- 1. अध्ययन
 - 2. अनुसंधान
 - 3. विरेचन
 - 4. अनुशीलन

Question ID : 26433062877

Status : Not Answered

Chosen Option : --

Q.10 निम्नलिखित वाक्य में रेखांकित खंड के स्थान पर प्रयुक्त होने वाले सबसे उपयुक्त विकल्प का चयन कीजिए।

मुख्य अतिथि ने छात्रों से पुरस्कार प्रदान किए।

- Ans
- 1. के साथ
 - 2. का
 - 3. को
 - 4. में

Question ID : 26433079664

Status : Not Answered

Chosen Option : --

Q.11 निम्नलिखित में से विशेषण सम्बन्धी अशुद्धि युक्त वाक्य का चयन कीजिए।

- Ans
- 1. यह एक बढ़िया किताब है।
 - 2. तुम बहुत धीरे स्वर में बोलते हो।
 - 3. यह एक अच्छा विकल्प है।
 - 4. यह पीले फूलों की माला है।

Question ID : 26433062998

Status : Not Answered

Chosen Option : --

Q.12 'नयनों को सुंदर लगने वाला' वाक्यांश के लिए उचित शब्द क्या होगा?

- Ans
- 1. मनोहर
 - 2. नयनाभिराम
 - 3. अनुपम
 - 4. अतुलनीय

Question ID : 26433067069
Status : Not Answered
Chosen Option : --

Q.13 'मन वृन्दावन होना' मुहावरे का सही अर्थ है -

- Ans
- 1. अत्यधिक प्रसन्न होना
 - 2. प्रेम हो जाना
 - 3. भक्ति भाव होना
 - 4. घूमने जाना

Question ID : 26433065932
Status : Not Answered
Chosen Option : --

Q.14 निम्नलिखित वाक्य के किस शब्द में अशुद्धि है?
राम और श्याम विद्यालय जा रहे हैं।

- Ans
- 1. श्याम
 - 2. राम
 - 3. रहे
 - 4. विद्यालय

Question ID : 26433066764
Status : Not Answered
Chosen Option : --

Q.15 निम्नलिखित वाक्यांश के लिए उपयुक्त सार्थक शब्द क्या होगा?
सूर्य के डूबने का समय

- Ans
- 1. अस्ताचल
 - 2. क्षितिज
 - 3. सूर्यास्त
 - 4. उदयाचल

Question ID : 26433073310
Status : Not Answered
Chosen Option : --

Comprehension:

प्रश्न संख्या 1 से 5 तक के उत्तर दिए गए गद्यांश के आधार पर दीजिए।
मिठाइयों के बाद कुछ दुकानें लोहे की चीज़ों की हैं, कुछ गिलट और कुछ नकली गहनों की। लड़कों के लिए यहाँ कोई 1. _____ न था। वे सब आगे बढ़ जाते हैं। हामिद लोहे की दुकान पर रुक जाता है। कई चिमटे रखे हुए थे। उसे ख्याल आया, दादी के पास चिमटा नहीं है। तब से 2. _____ उतारती हैं तो हाथ जल जाता है। अगर वह चिमटा ले जाकर दादी को दे दे, तो वह कितनी 3. _____ होंगी ! फिर उनकी उँगलियाँ कभी न जलेंगी। घर में काम की चीज़ हो जाएगी। खिलौनों से क्या फायदा ? व्यर्थ में पैसे खराब होते हैं। ज़रा देर ही तो 4. _____ होती है। फिर तो खिलौने को कोई आँख उठाकर नहीं देखता। ये तो घर पहुँचते-पहुँचते टूट-फूट कर बराबर हो जाएँगे। 5. _____ कितने काम की चीज़ है! रोटियाँ तब से उतार लो, चूल्हे में सेंक लो।

SubQuestion No : 16

Q.16 विकल्पों में से उपयुक्त शब्द के चयन द्वारा रिक्त स्थान 1 की पूर्ति कीजिए।

- Ans 1. आवश्यक
 2. आकर्षण
 3. विशेषता
 4. आसरा

Question ID : 26433069919

Status : Not Answered

Chosen Option : --

Comprehension:

प्रश्न संख्या 1 से 5 तक के उत्तर दिए गए गद्यांश के आधार पर दीजिए।
मिठाइयों के बाद कुछ दुकानें लोहे की चीज़ों की हैं, कुछ गिलट और कुछ नकली गहनों की। लड़कों के लिए यहाँ कोई 1. _____ न था। वे सब आगे बढ़ जाते हैं। हामिद लोहे की दुकान पर रुक जाता है। कई चिमटे रखे हुए थे। उसे ख्याल आया, दादी के पास चिमटा नहीं है। तब से 2. _____ उतारती हैं तो हाथ जल जाता है। अगर वह चिमटा ले जाकर दादी को दे दे, तो वह कितनी 3. _____ होंगी ! फिर उनकी उँगलियाँ कभी न जलेंगी। घर में काम की चीज़ हो जाएगी। खिलौनों से क्या फायदा ? व्यर्थ में पैसे खराब होते हैं। ज़रा देर ही तो 4. _____ होती है। फिर तो खिलौने को कोई आँख उठाकर नहीं देखता। ये तो घर पहुँचते-पहुँचते टूट-फूट कर बराबर हो जाएँगे। 5. _____ कितने काम की चीज़ है! रोटियाँ तब से उतार लो, चूल्हे में सेंक लो।

SubQuestion No : 17

Q.17 विकल्पों में से उपयुक्त शब्द के चयन द्वारा रिक्त स्थान 2 की पूर्ति कीजिए।

- Ans 1. पूरियाँ
 2. फुलकियाँ
 3. कचौरियाँ
 4. रोटियाँ

Question ID : 26433069920

Status : Not Answered

Chosen Option : --

Comprehension:

प्रश्न संख्या 1 से 5 तक के उत्तर दिए गए गद्यांश के आधार पर दीजिए।
मिठाइयों के बाद कुछ दुकानें लोहे की चीज़ों की हैं, कुछ गिलट और कुछ नकली गहनों की। लड़कों के लिए यहाँ कोई 1. _____ न था। वे सब आगे बढ़ जाते हैं। हामिद लोहे की दुकान पर रुक जाता है। कई चिमटे रखे हुए थे। उसे ख्याल आया, दादी के पास चिमटा नहीं है। तब से 2. _____ उतारती हैं तो हाथ जल जाता है। अगर वह चिमटा ले जाकर दादी को दे दे, तो वह कितनी 3. _____ होंगी ! फिर उनकी उँगलियाँ कभी न जलेंगी। घर में काम की चीज़ हो जाएगी। खिलौनों से क्या फायदा ? व्यर्थ में पैसे खराब होते हैं। ज़रा देर ही तो 4. _____ होती है। फिर तो खिलौने को कोई आँख उठाकर नहीं देखता। ये तो घर पहुँचते-पहुँचते टूट-फूट कर बराबर हो जाएँगे। 5. _____ कितने काम की चीज़ है! रोटियाँ तब से उतार लो, चूल्हे में सेंक लो।

SubQuestion No : 18

Q.18 विकल्पों में से उपयुक्त शब्द के चयन द्वारा रिक्त स्थान 3 की पूर्ति कीजिए।

- Ans 1. दुःखी
 2. सौभाग्यशाली
 3. प्रसन्न
 4. निराश

Question ID : 26433069921

Status : Not Answered

Chosen Option : --

Comprehension:

प्रश्न संख्या 1 से 5 तक के उत्तर दिए गए गद्यांश के आधार पर दीजिए।
मिठाइयों के बाद कुछ दुकानें लोहे की चीज़ों की हैं, कुछ गिलट और कुछ नकली गहनों की। लड़कों के लिए यहाँ कोई 1. _____ न था। वे सब आगे बढ़ जाते हैं। हामिद लोहे की दुकान पर रुक जाता है। कई चिमटे रखे हुए थे। उसे ख्याल आया, दादी के पास चिमटा नहीं है। तब से 2. _____ उतारती हैं तो हाथ जल जाता है। अगर वह चिमटा ले जाकर दादी को दे दे, तो वह कितनी 3. _____ होंगी ! फिर उनकी उँगलियाँ कभी न जलेंगी। घर में काम की चीज़ हो जाएगी। खिलौनों से क्या फायदा ? व्यर्थ में पैसे खराब होते हैं। ज़रा देर ही तो 4. _____ होती है। फिर तो खिलौने को कोई आँख उठाकर नहीं देखता। ये तो घर पहुँचते-पहुँचते टूट-फूट कर बराबर हो जाएँगे। 5. _____ कितने काम की चीज़ है! रोटियाँ तब से उतार लो, चूल्हे में सेंक लो।

SubQuestion No : 19

Q.19 विकल्पों में से उपयुक्त शब्द के चयन द्वारा रिक्त स्थान 4 की पूर्ति कीजिए।

- Ans 1. आशा
 2. खुशी
 3. उत्सुकता
 4. आस

Question ID : 26433069922

Status : Not Answered

Chosen Option : --

Comprehension:

प्रश्न संख्या 1 से 5 तक के उत्तर दिए गए गद्यांश के आधार पर दीजिए।
मिठाइयों के बाद कुछ दुकानें लोहे की चीज़ों की हैं, कुछ गिलट और कुछ नकली गहनों की। लड़कों के लिए यहाँ कोई 1. _____ न था। वे सब आगे बढ़ जाते हैं। हामिद लोहे की दुकान पर रुक जाता है। कई चिमटे रखे हुए थे। उसे ख्याल आया, दादी के पास चिमटा नहीं है। तब से 2. _____ उतारती हैं तो हाथ जल जाता है। अगर वह चिमटा ले जाकर दादी को दे दे, तो वह कितनी 3. _____ होगी ! फिर उनकी उँगलियाँ कभी न जलेंगी। घर में काम की चीज़ हो जाएगी। खिलौनों से क्या फायदा ? व्यर्थ में पैसे खराब होते हैं। ज़रा देर ही तो 4. _____ होती है। फिर तो खिलौने को कोई आँख उठाकर नहीं देखता। ये तो घर पहुँचते-पहुँचते टूट-फूट कर बराबर हो जाएँगे। 5. _____ कितने काम की चीज़ है! रोटियाँ तब से उतार लो, चूल्हे में सेंक लो।

SubQuestion No : 20

Q.20 विकल्पों में से उपयुक्त शब्द के चयन द्वारा रिक्त स्थान 5 की पूर्ति कीजिए।

- Ans 1. चिमटा
 2. चिमटी
 3. प्लास
 4. पेचकस

Question ID : 26433069923

Status : Not Answered

Chosen Option : --

KD Job Updates

Constable GD in CAPFs SSF Rifleman GD in Assam Rifles and Sepoy in NCB Examination 2022

Roll Number	KD Job Updates
Candidate Name	KD Job Updates
Venue Name	iON Digital Zone iDZ Gegal Industrial Area
Exam Date	07/02/2023
Exam Time	11:45 AM - 12:45 PM
Subject	Constable GD Examination 2022

Section : Part-A-General Intelligence and Reasoning

Q.1 आठ व्यक्ति - D, E, G, H, M, N, Y और Z एक सीधी पंक्ति में उत्तर की ओर मुख करके बैठे हैं। Y पंक्ति के किसी एक सिरे पर बैठा है। Y और Z के बीच केवल दो व्यक्ति बैठे हैं। E, Z के दाईं ओर तीसरे स्थान पर बैठा है। E और D के बीच केवल चार व्यक्ति बैठे हैं। G, E के दाईं ओर किसी एक स्थान पर बैठा है। N, Z के ठीक बगल में नहीं बैठा है। H, M के दाईं ओर दूसरे स्थान पर बैठा है। M के बाईं ओर कितने व्यक्ति बैठे हैं?

- Ans
- 1. एक
 - 2. कोई नहीं
 - 3. दो
 - 4. तीन

Question ID : 26433092425

Status : Answered

Chosen Option : 3

Q.2 'C \$ D' का अर्थ है 'C, D का भाई है'
'C # D' का अर्थ है 'C, D की बहन है'
'C + D' का अर्थ है 'C, D का पिता है'
'C - D' का अर्थ है 'C, D की माता है'
यदि 'P \$ Z + Q \$ B' है, तो P, B से किस प्रकार संबंधित है?

- Ans
- 1. P, B का पिता है
 - 2. P, B का चाचा/ताऊ है
 - 3. P, B का भाई है
 - 4. P, B का ससुर है

Question ID : 26433087126

Status : Answered

Chosen Option : 2

Q.3 उस विकल्प का चयन कीजिए जो तीसरे शब्द से उसी प्रकार संबंधित है जिस प्रकार दूसरा शब्द पहले शब्द से संबंधित है। (शब्दों को अर्थपूर्ण शब्दों के रूप में मानना है और उन्हें शब्द में अक्षरों/व्यंजनों/स्वरों की संख्या के आधार पर एक-दूसरे से संबंधित नहीं करना है।)
सोमवार : गुरुवार :: बुधवार : ?

- Ans
- 1. शनिवार
 - 2. सोमवार
 - 3. शुक्रवार
 - 4. रविवार

Question ID : 26433067977
Status : Answered
Chosen Option : 1

Q.4 एक निश्चित कूट भाषा में, 'we can go' को 'ti mi pi' के रूप में लिखा जाता है, 'can i sit' को 'pi ri di' के रूप में लिखा जाता है और 'sit and go' को 'di si ti' के रूप में लिखा जाता है। उसी भाषा में 'and' को कैसे लिखा जाएगा?

- Ans
- 1. pi
 - 2. ti
 - 3. di
 - 4. si

Question ID : 26433070327
Status : Answered
Chosen Option : 4

Q.5 निम्नलिखित में से कौन सी संख्या दी गई श्रृंखला में प्रश्न चिह्न (?) के स्थान पर आएगी?
665, 670, 663, 674, 661, 678, ?, 682

- Ans
- 1. 676
 - 2. 680
 - 3. 659
 - 4. 625

Question ID : 26433089767
Status : Answered
Chosen Option : 3

Q.6 एक निश्चित कूट भाषा में 'GLAD' शब्द को 'ZLADG' लिखा जाता है। 'SCAR' शब्द को 'ZCARS' लिखा जाता है। उसी भाषा में 'LOST' शब्द को कैसे लिखा जाएगा?

- Ans
- 1. ZLOST
 - 2. ZTLOS
 - 3. ZOTLS
 - 4. ZOSTL

Question ID : 26433090108
Status : Answered
Chosen Option : 4

Q.7 उस विकल्प का चयन करें, जो चौथे पद से उसी प्रकार संबंधित है जिस प्रकार पहला पद दूसरे पद से संबंधित है और पाँचवाँ पद छठे पद से संबंधित है।
407 : 37 :: ? : 59 :: 253 : 23

- Ans
- 1. 341
 - 2. 539
 - 3. 738
 - 4. 649

Question ID : 26433074549
Status : Answered
Chosen Option : 4

Q.8 नीचे दिए गए समीकरण को गणितीय रूप से सही बनाने के लिए किन दो गणितीय चिन्हों को परस्पर बदलना चाहिए?
 $12 + 112 \div 16 - 8 \times 64 = 140$

- Ans
- 1. + और ×
 - 2. + और ÷
 - 3. + और ×
 - 4. + और -

Question ID : 264330117562
Status : Answered
Chosen Option : 3

Q.9 उस विकल्प का चयन कीजिए जो पाँचवें पद से उसी प्रकार संबंधित है जिस प्रकार दूसरा पद पहले पद से और चौथा पद तीसरे पद से संबंधित है।
STAY : ASTY :: BEAM : ABEM :: RIDE : ?

- Ans
- 1. DEIR
 - 2. SJEF
 - 3. EFHQ
 - 4. DRIE

Question ID : 26433087193
Status : Answered
Chosen Option : 1

Q.10 निम्नलिखित में से कौन-सा पद दी गई श्रृंखला में प्रश्न-चिह्न (?) के स्थान पर आएगा?
DVH, FWM, JZR, LAW, PDB, ?

- Ans
- 1. SFG
 - 2. SHE
 - 3. RFH
 - 4. REG

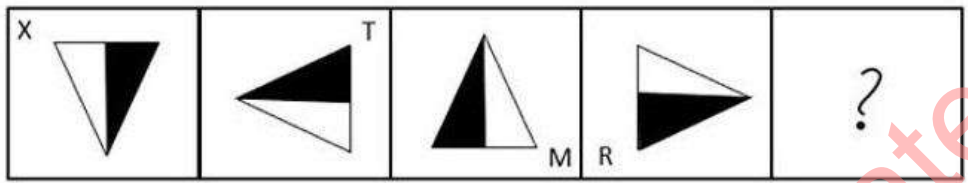
Question ID : 26433069454
Status : Answered
Chosen Option : 4

Q.11 पाँच दोस्त A, B, C, D और E एक पंक्ति में उत्तर की ओर मुख करके बैठे हैं। E, D के दाईं ओर ठीक बगल में है, और A बाएं सिरे पर है। C, A और D के ठीक मध्य में है। E के दाईं ओर ठीक बगल में कौन होगा?

- Ans
- 1. D
 - 2. A
 - 3. B
 - 4. C

Question ID : 26433079063
 Status : Answered
 Chosen Option : 3

Q.12 निम्नलिखित आकृति शृंखला में प्रश्न-चिह्न (?) के स्थान पर नीचे दिए गए विकल्पों में से कौन-सी आकृति आएगी?



Ans

- 1.
- 2.
- 3.
- 4.

Question ID : 26433081693
 Status : Answered
 Chosen Option : 3

Q.13 निम्नलिखित में से कौन सा विकल्प नीचे दिए गए शब्दों के उस क्रम को निरूपित करता है जिस क्रम में वे अंग्रेजी शब्दकोश में आते हैं?

1. Expensive
2. Experiment
3. Expertise
4. Expiry
5. Expert

Ans ✓ 1. 1, 2, 5, 3, 4

✗ 2. 1, 2, 3, 4, 5

✗ 3. 2, 1, 5, 3, 4

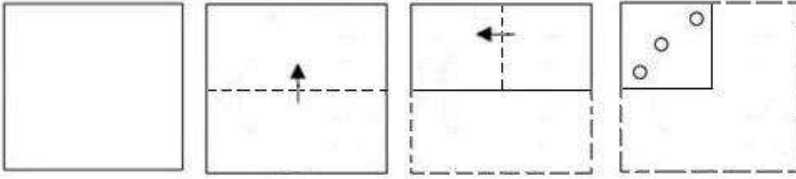
✗ 4. 1, 2, 3, 5, 4

Question ID : 26433086969

Status : Answered


Chosen Option : 1

Q.14 एक कागज को नीचे दिखाए अनुसार मोड़ा और काटा गया है। कागज की तह खुलने पर यह कैसा दिखाई देगा?




Ans

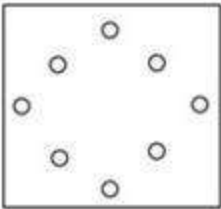
✗ 1.



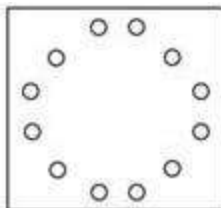
✗ 2.



✗ 3.



✓ 4.



Question ID : 26433090955

Status : Answered

Chosen Option : 4

Q.15 विकल्पों में दिए गए गणितीय चिह्नों का कौन सा संयोजन निम्न समीकरण में * चिह्नों के स्थान पर क्रमिक रूप से आकर समीकरण को संतुलित करेगा?
91 * 7 * 2 * 4 * 10 * 5

Ans 1. +, -, =, ÷, ×

2. ÷, =, ×, +, -

3. ×, ÷, +, =, -

4. ×, ÷, +, -, =

Question ID : 26433094994

Status : Answered

Chosen Option : 2

Q.16 तीन कथन दिए गए हैं, जिनके बाद तीन निष्कर्ष I, II और III दिए गए हैं। कथनों को सत्य मानते हुए, भले ही वे सामान्य रूप से ज्ञात तथ्यों से भिन्न प्रतीत होते हों, निर्धारित करें कि कौन-सा/से निष्कर्ष कथनों का तार्किक रूप से अनुसरण करता है/करते हैं।

कथन:

सभी सेब संतरे हैं।

कुछ संतरे केले हैं।

सभी केले कीवी हैं।

निष्कर्ष:

I. कुछ संतरे कीवी हैं।

II. कुछ संतरे सेब हैं।

III. कुछ सेब केले हैं।

Ans 1. केवल निष्कर्ष III अनुसरण करता है

2. सभी निष्कर्ष अनुसरण करते हैं

3. केवल निष्कर्ष II और III अनुसरण करते हैं

4. केवल निष्कर्ष I और II अनुसरण करते हैं

Question ID : 26433090998

Status : Answered

Chosen Option : 4

Q.17 दी गई आकृति की सही दर्पण-प्रतिबिंब का चयन करें, जब दर्पण को MN पर रखा जाता है, जैसा कि नीचे दिखाया गया है।



- Ans
- ✗ 1.
 - ✗ 2.
 - ✓ 3.
 - ✗ 4.

Question ID : 26433090147
Status : Answered
Chosen Option : 3

Q.18 निम्नलिखित में से कौन सी संख्या दी गई श्रृंखला में प्रश्न चिह्न (?) के स्थान पर आएगी?
23, 50, 108, 228, ?, 964

- Ans
- ✗ 1. 478
 - ✗ 2. 474
 - ✗ 3. 468
 - ✓ 4. 472

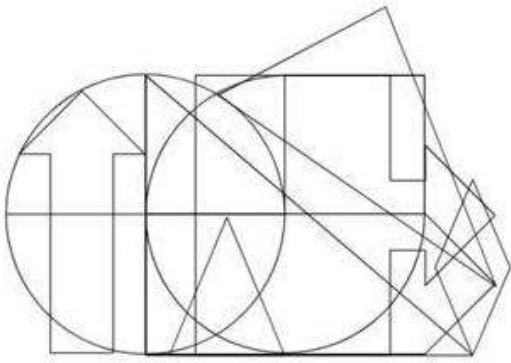
Question ID : 26433085642
Status : Answered
Chosen Option : 4

Q.19 कौन-सा अक्षर-समूह दी गई श्रृंखला में प्रश्नचिह्न (?) के स्थान पर आकर श्रृंखला को पूर्ण करेगा?
KSCA, OXWG, ?, WHKS, AMEY

- Ans
- ✓ 1. SCQM
 - ✗ 2. TQMS
 - ✗ 3. XTRM
 - ✗ 4. VGMR


Question ID : 26433079425
Status : Answered
Chosen Option : 1

Q.20 उस विकल्प आकृति का चयन करें जो नीचे दी गई आकृति में अंतर्निहित है।
(आकृति घुमाने की अनुमति नहीं है)




Ans


✗ 1.




✗ 2.



✓ 3.



✗ 4.



KD Job Updates

Section : Part-B-General Knowledge and General awareness

Q.1 उपभोक्ता पोषक तत्वों के _____ के साथ बेहतर गुणवत्ता वाले खाद्य पदार्थों की अपेक्षा करते हैं।

- Ans
- 1. मिलावट
 - 2. संदूषण
 - 3. प्रतिधारण
 - 4. बहिष्करण

Question ID : 264330115265
Status : Answered
Chosen Option : 2

Q.2 बक्सर का युद्ध _____ में लड़ा गया था।

- Ans
- 1. 1757
 - 2. 1755
 - 3. 1760
 - 4. 1764

Question ID : 264330115726
Status : Answered
Chosen Option : 4

Q.3 बैडमिंटन पोस्ट की ऊँचाई कितनी होती है?

- Ans
- 1. 1.55 m
 - 2. 1.85 m
 - 3. 1.80 m
 - 4. 1.45 m

Question ID : 26433092336
Status : Not Answered
Chosen Option : --

Q.4 किसी राज्य के राज्यपाल के सभी कार्यकारी कार्यों को _____ के नाम से किया जाना अभिव्यक्त किया जाएगा।

- Ans
- 1. मुख्यमंत्री
 - 2. मंत्रिमंडल
 - 3. राज्यपाल
 - 4. महाधिवक्ता

Question ID : 26433089187
Status : Answered
Chosen Option : 1

Q.5 बेंगलुरु में 108 फीट ऊंची कांस्य प्रतिमा, स्टेचू ऑफ़ प्रोस्पेरिटी, जिसका उद्घाटन प्रधानमंत्री नरेंद्र मोदी ने किया था, किसकी स्मृति में बनाई गई है?

- Ans
- 1. वल्लभभाई पटेल
 - 2. नादप्रभु केम्पेगौड़ा
 - 3. मगदी केम्पेगौड़ा
 - 4. ऋषभनाथ

Question ID : 264330115052
Status : Answered
Chosen Option : 4

Q.6 तंजौर बालासरस्वती एक प्रसिद्ध _____ नृत्यांगना थीं।

- Ans
- 1. कुचिपुड़ी
 - 2. भरतनाट्यम
 - 3. सत्रीया
 - 4. ओडिसी

Question ID : 264330115894
Status : Answered
Chosen Option : 2

Q.7 कौन से राजनीतिक नेता जून 2022 में केरल के थिक्काकारा निर्वाचन क्षेत्र से विधान सभा के सदस्य बने?

- Ans
- 1. जगदीप धनखड़
 - 2. अमित शाह
 - 3. पिनारई विजयन
 - 4. उमा थॉमस

Question ID : 264330114972
Status : Answered
Chosen Option : 3

Q.8 धनात्मक शुद्ध निर्यात वाले राष्ट्र में व्यापार _____ होता/होती है।

- Ans
- 1. ऋण
 - 2. घाटा
 - 3. अधिशेष
 - 4. राशि

Question ID : 264330115349
Status : Answered
Chosen Option : 3

Q.9 निम्न में से एक ऐसे तत्व की पहचान करें, जो अर्ध-धातु नहीं है।

- Ans
- 1. आर्सेनिक
 - 2. सीजियम
 - 3. सिलिकॉन
 - 4. जर्मेनियम

Question ID : 26433087853

Status : Answered

Chosen Option : 2

Q.10 दिए गए विकल्पों में से _____ सिंचाई की एक विधि है।

- Ans
- 1. नहर
 - 2. दोहरी फसल लेना
 - 3. जुताई
 - 4. सीढ़ीदार खेती

Question ID : 264330115434

Status : Answered

Chosen Option : 1

Q.11 सूर्य पृथ्वी से लगभग _____ कि.मी. दूर है।

- Ans
- 1. 50 मिलियन
 - 2. 20 मिलियन
 - 3. 150 मिलियन
 - 4. 100 मिलियन

Question ID : 264330116092

Status : Not Answered

Chosen Option : --

Q.12 फुटबॉल मैच में टच लाइन की अधिकतम लंबाई कितनी होती है?

- Ans
- 1. 90 m
 - 2. 120 m
 - 3. 100 m
 - 4. 110 m

Question ID : 26433090753

Status : Answered

Chosen Option : 2

Q.13 _____ बजट से भारत में बजट घाटा दिखाने की प्रथा बंद कर दी गई है।

- Ans
- 1. 1994-95
 - 2. 1997-98
 - 3. 2003-04
 - 4. 2001-02

Question ID : 26433054803
Status : Not Answered
Chosen Option : --

Q.14 निम्नलिखित में से कौन एक भरतनाट्यम नर्तकी है?

- Ans
- 1. सितारा देवी
 - 2. तंजौर बालासरस्वती
 - 3. वी सत्यनारायण शर्मा
 - 4. कलामंडलम कल्याणीकुट्टी अम्मा

Question ID : 26433071691
Status : Answered
Chosen Option : 4

Q.15 प्रसिद्ध शासक कनिष्क _____ वंश के थे।

- Ans
- 1. हूण
 - 2. कुषाण
 - 3. शुंग
 - 4. शक

Question ID : 26433089863
Status : Answered
Chosen Option : 2

Q.16 वर्तमान में, पृथ्वी पर अलवणजल के 70 प्रतिशत स्रोत कहां से प्राप्त किए जा सकते हैं?

- Ans
- 1. अंटार्कटिका, ग्रीनलैंड और दुनिया के पहाड़ी क्षेत्र
 - 2. प्रशांत महासागर
 - 3. हिमालय और आर्कटिक महासागर
 - 4. हिमालय और बंगाल की खाड़ी

Question ID : 26433087892
Status : Answered
Chosen Option : 1

Q.17 निम्नलिखित राजनीतिक नेताओं में से कौन अगस्त 2022 में वेंकैया नायडू के बाद भारत के उपराष्ट्रपति बने?

- Ans
- 1. विश्वभूषण हरिचंदन
 - 2. जगदीप धनखड़
 - 3. आरिफ मोहम्मद खान
 - 4. भगत सिंह कोश्यारी

Question ID : 264330114888

Status : Answered

Chosen Option : 2

Q.18 निम्नलिखित में से किस अनुच्छेद के तहत संपत्ति के अधिकार को कानूनी अधिकार के रूप में स्थानांतरित कर दिया गया है?

- Ans
- 1. अनुच्छेद 301-A
 - 2. अनुच्छेद 333
 - 3. अनुच्छेद 345
 - 4. अनुच्छेद 300-A

Question ID : 26433089181

Status : Answered

Chosen Option : 4

Q.19 व्यक्तिगत संचार के साधनों का एक उदाहरण दें।

- Ans
- 1. रेडियो
 - 2. कंप्यूटर
 - 3. टेलीफोन सेवा
 - 4. टेलीविजन

Question ID : 264330115596

Status : Answered

Chosen Option : 3

Q.20 विशु पर्व मुख्य रूप से भारत के निम्नलिखित में से किस राज्य में मनाया जाता है?

- Ans
- 1. केरल
 - 2. मध्य प्रदेश
 - 3. असम
 - 4. राजस्थान

Question ID : 26433094896

Status : Answered

Chosen Option : 1

Q.1 जब एक ब्लूटूथ ईयरफोन की कीमत में 12% की वृद्धि की जाती है, तो इसकी बिक्री (ब्लूटूथ ईयरफोन की संख्या) 20% कम हो जाती है। इसके राजस्व पर पड़ने वाला शुद्ध प्रभाव क्या है?

- Ans
- 1. 14.0% की कमी
 - 2. 10.4% की कमी
 - 3. 10.4% की वृद्धि
 - 4. 14.0% की वृद्धि

Question ID : 26433080294

Status : Answered

Chosen Option : 2

Q.2 एक अलमारी ₹15,500 में खरीदी गई और ₹260 इसके परिवहन पर खर्च किए गए। 20% का लाभ प्राप्त करने के लिए इसे किस कीमत पर बेचा जाना चाहिए?

- Ans
- 1. ₹18910
 - 2. ₹18916
 - 3. ₹18912
 - 4. ₹18914

Question ID : 26433079772

Status : Answered

Chosen Option : 3

Q.3 दिए गए व्यंजक का मान क्या है?

$$9 \div \frac{3}{5} + 25 \left(\frac{4}{5} + \frac{3}{15} \right) - 9 \text{ of } \frac{2}{3}$$

- Ans
- 1. 42
 - 2. 37
 - 3. 45
 - 4. 34

Question ID : 26433081636

Status : Answered

Chosen Option : 4

Q.4 चेन्नई में एक आई.पी.एल. मैच का टिकट ₹2,500 का था। जब टिकट की कीमत कम की गई, तो टिकटों की बिक्री (टिकटों की संख्या) में 50% की वृद्धि हुई, लेकिन राजस्व में 15% की कमी देखी गई। टिकट की घटी हुई कीमत (दशमलव के बाद दो स्थानों तक पूर्णांकित) क्या थी?

- Ans
- 1. ₹2,250.33
 - 2. ₹2,125.67
 - 3. ₹1,450.33
 - 4. ₹1416.67

Question ID : 26433076222

Status : Answered

Chosen Option : 4

Q.5 एक दुकानदार फलों का उपहार पैकेट बेच रहा है, जिसमें वह सेब और आम मिला कर दे रहा है। पैकेट में ₹100 प्रति kg की औसत दर से कुल 12 kg फल हैं। पैकेट में ₹90 प्रति kg की दर से 8 kg सेब हैं, जबकि ₹X प्रति kg की दर से 4 kg आम हैं। 'X' का मान ज्ञात करें।
नोट: पैकिंग के लिए अन्य सभी शुल्कों पर ध्यान नहीं दिया जाना है।

- Ans
- 1. 110
 - 2. 100
 - 3. 120
 - 4. 95

Question ID : 26433082498

Status : Answered

Chosen Option : 3

Q.6 रमेश को ₹800 के अंकित मूल्य वाली एक पुस्तक पर दो ऑफर मिल रहे थे। वह या तो 20% प्रत्येक की दो क्रमिक छूट ले सकता था, या 30% और 10% की दो क्रमिक छूट ले सकता था। यदि रमेश ने बेहतर ऑफर वाली योजना को चुना होता, तो उसने अन्य योजना के मुकाबले कितनी अधिक बचत की होती?

- Ans
- 1. ₹8
 - 2. ₹6
 - 3. ₹16
 - 4. ₹20

Question ID : 26433076328

Status : Answered

Chosen Option : 1

Q.7 Rs.1,920 में बेची गई किसी वस्तु पर अर्जित लाभ का प्रतिशत, Rs.1,280 में इसी वस्तु को बेचे जाने पर हुई हानि के प्रतिशत के बराबर है। 25% लाभ कमाने के लिए वस्तु को किस कीमत पर बेचा जाना चाहिए?

- Ans
- 1. Rs.2,000
 - 2. Rs.1,940
 - 3. Rs.2,020
 - 4. Rs.1,960

Question ID : 26433075847

Status : Answered

Chosen Option : 1

Q.8 एक पुलिसकर्मी ने 420 m की दूरी से एक चोर को देखा। चोर भागने लगता है और पुलिसकर्मी उसका पीछा करता है। पुलिसकर्मी और चोर क्रमशः 25 km/h और 20 km/h की चाल से दौड़ते हैं। तीन मिनट के बाद उनके बीच की दूरी क्या होगी?

- Ans
- 1. 250 m
 - 2. 320 m
 - 3. 170 m
 - 4. 230 m

Question ID : 26433075739

Status : Answered

Chosen Option : 3

Q.9 A और B एक साथ काम करते हुए एक प्रोजेक्ट को 16 दिनों में पूरा कर सकते हैं जबकि B अकेला इसे 24 दिनों में पूरा कर सकता है। A अकेले प्रोजेक्ट को कितने दिनों में पूरा कर सकता है?

- Ans
- 1. 44 दिन
 - 2. 36 दिन
 - 3. 48 दिन
 - 4. 42 दिन

Question ID : 26433080362

Status : Answered

Chosen Option : 3

Q.10 40 आदमी एक काम को 15 दिनों में पूरा कर सकते हैं। उन्होंने काम करना शुरू किया, और 5 दिनों के बाद 10 और आदमी उनके साथ जुड़ गए। पूरा काम कितने दिनों में पूरा होगा?

- Ans
- 1. 12
 - 2. 11
 - 3. 13
 - 4. 10

Question ID : 26433082991

Status : Answered

Chosen Option : 3

Q.11 एक गोले का संपूर्ण पृष्ठीय क्षेत्रफल 22176 cm^2 है। गोले का व्यास ज्ञात कीजिए।

$\left(\pi = \frac{22}{7} \text{ का उपयोग कीजिए} \right)$

- Ans
- 1. 24 cm
 - 2. 42 cm
 - 3. 21 cm
 - 4. 84 cm

Question ID : 26433087407

Status : Answered

Chosen Option : 4

Q.12 एक इलेक्ट्रॉनिक दुकान किसी भी इलेक्ट्रॉनिक उपकरण की खरीद पर 20% की छूट दे रही है, जिसकी कीमत ₹80,000 या उससे अधिक है, ₹50,000 और ₹79,999 के बीच की वस्तुओं पर 16% की छूट, ₹20,000 से लेकर ₹49,999 तक की वस्तुओं पर 10% की छूट और मोबाइल कवर, इयरफ़ोन, चार्जर आदि जैसे किसी भी मोबाइल एक्सेसरीज़ की खरीद पर 3% की छूट दे रही है। नियम और शर्तों के अनुसार ये सभी छूट स्वतंत्र हैं और केवल मूल्य रेंज के आधार पर प्रदान की जाती हैं। अजय ने ₹40,000 की कीमत का एक मोबाइल, ₹90,000 का एक लैपटॉप और ₹400 का एक मोबाइल कवर खरीदा। उसे कुल कितनी छूट मिली?

- Ans
- 1. ₹22,002
 - 2. ₹22,120
 - 3. ₹22,012
 - 4. ₹21,012

Question ID : 26433082504

Status : Answered

Chosen Option : 3

Q.13 एक राशि चक्रवृद्धि ब्याज पर 3 वर्षों में Rs.4,900 और 5 वर्षों में Rs.6,400 हो जाती है, जब ब्याज वार्षिक रूप से चक्रवृद्धि किया जाता है। वार्षिक ब्याज दर ज्ञात कीजिए।

- Ans
- 1. $13\frac{2}{7}\%$
 - 2. $11\frac{2}{7}\%$
 - 3. $12\frac{2}{7}\%$
 - 4. $14\frac{2}{7}\%$

Question ID : 26433082979

Status : Answered

Chosen Option : 4

Q.14 वर्ष 2019 में ₹1,20,000 की राशि का 12% वार्षिक की दर से सावधि जमा में निवेश किया गया था, जिसकी गणना वार्षिक चक्रवृद्धि आधार पर की गई। वर्ष 2022 में इसका मूल्य लगभग क्या होगा?

- Ans
- 1. ₹1,61,253
 - 2. ₹1,43,200
 - 3. ₹1,68,591
 - 4. ₹1,56,400

Question ID : 26433091564

Status : Answered

Chosen Option : 3

Q.15 यदि एक बेलन की ऊंचाई में 25% की वृद्धि की जाती है, और उसके आधार की त्रिज्या में 15% की कमी की जाती है, तो उसके वक्र पृष्ठीय क्षेत्रफल में प्रतिशत वृद्धि/कमी ज्ञात कीजिए।

- Ans
- 1. 6.25% वृद्धि
 - 2. 2.23% कमी
 - 3. 4.15% कमी
 - 4. 3.25% वृद्धि

Question ID : 26433075006

Status : Answered

Chosen Option : 1

Q.16 एक पुलिसकर्मी 120 मीटर आगे एक चोर को देखता है, तुरंत पुलिसकर्मी चोर का पीछा करना शुरू कर देता है। पुलिसकर्मी एक मिनट में 26 मीटर और चोर 20 मीटर दौड़ता है। पुलिसकर्मी कितने समय में चोर को पकड़ लेगा?

- Ans
- 1. 19 मिनट
 - 2. 20 मिनट
 - 3. 18 मिनट
 - 4. 21 मिनट

Question ID : 26433075474

Status : Answered

Chosen Option : 2

Q.17 यदि प्रथम 110 प्राकृत संख्याओं का लघुत्तम समापवर्त्य N है, तो प्रथम 115 प्राकृत संख्याओं का लघुत्तम समापवर्त्य ज्ञात कीजिए।

- Ans
- 1. $111 \times 112 \times 113 \times 114 \times 115N$
 - 2. $115N$
 - 3. $111 \times 113N$
 - 4. $113N$

Question ID : 26433090316

Status : Answered

Chosen Option : 1

Q.18 दूध और पानी के मिश्रण में 18 भाग दूध और 8 भाग पानी है। मिश्रण के कितने भाग को हटाकर पानी से प्रतिस्थापित कर दिया जाना चाहिए, ताकि पानी और दूध का अनुपात बराबर हो जाए?

- Ans
- 1. $\frac{10}{18}$
 - 2. $\frac{12}{18}$
 - 3. $\frac{1}{18}$
 - 4. $\frac{5}{18}$

Question ID : 26433081548
Status : Answered
Chosen Option : 4

Q.19 दूध और पानी के 90 लीटर मिश्रण में दूध और पानी का अनुपात 4 : 1 है। मिश्रण में कितना पानी मिलाना चाहिए ताकि दूध का पानी से अनुपात 3 : 1 हो जाए?

- Ans
- 1. 5.5 लीटर
 - 2. 7 लीटर
 - 3. 6 लीटर
 - 4. 6.5 लीटर

Question ID : 26433076189
Status : Answered
Chosen Option : 3

Q.20 यदि 12 पुरुष 60 मीटर लंबी दीवार का निर्माण 5 दिन में कर सकते हैं, तो 24 पुरुष 2 दिन में उसी दीवार की कितनी लंबाई का निर्माण कर सकते हैं?

- Ans
- 1. 44 मीटर
 - 2. 46 मीटर
 - 3. 42 मीटर
 - 4. 48 मीटर

Question ID : 26433080122
Status : Answered
Chosen Option : 4

Q.1 Select the most appropriate meaning of the underlined idiom that can be substituted in the following sentence.

I am at sea after listening to the arguments.

- Ans
- 1. totally relaxed
 - 2. perplexed
 - 3. stuck in the seas
 - 4. sailing on the seas

Question ID : 26433072235
Status : Not Answered
Chosen Option : --

Q.2 Select the most appropriate option that can substitute the underlined segment in the given sentence.

She heard a loud humming noise and guess that it is being an aeroplane.

- Ans
- 1. has guessed that it is aeroplane
 - 2. guessing that it were aeroplane
 - 3. to guess that it is being the aeroplane
 - 4. guessed that it was an aeroplane

Question ID : 26433092289
Status : Not Answered
Chosen Option : --

Q.3 Select the most appropriate option that can substitute the underlined segment in the given sentence.

Travel on a hot dusty train gives me no pleasure.

- Ans
- 1. Travels on a
 - 2. Travel in a
 - 3. Travelling on a
 - 4. Travelling at a

Question ID : 264330102395
Status : Not Answered
Chosen Option : --

Q.4 Select the most appropriate homonym to fill in the blank.

I had to keep very _____ when the photographer was taking my picture.

- Ans
- 1. chum
 - 2. shrill
 - 3. still
 - 4. lid

Question ID : 26433088788
Status : Not Answered
Chosen Option : --

Q.5 Complete the sentence by choosing the most appropriate synonym of the underlined word.

If the answer is false, it is _____.

- Ans
- 1. correct
 - 2. untrue
 - 3. genuine
 - 4. right

Question ID : 26433088863
Status : Not Answered
Chosen Option : --

Q.6 Select the most appropriate ANTONYM of the word given in the bracket to fill in the blank.

If a person commits a crime with (malice)_____, they did it on purpose.

- Ans
- 1. disdain
 - 2. rancour
 - 3. disgust
 - 4. goodwill

Question ID : 26433059598
Status : Not Answered
Chosen Option : --

Q.7 Select the most appropriate ANTONYM of the underlined word in the given sentence.
The engineers finally destroyed the ship to its original form.

- Ans
- 1. restored
 - 2. reversed
 - 3. abolished
 - 4. started

Question ID : 26433055484
Status : Not Answered
Chosen Option : --

Q.8 Select the most appropriate synonym for the underlined word in the given sentence.

He was brusque and candid in the interview.

- Ans
- 1. brave
 - 2. abrupt
 - 3. pursue
 - 4. vociferous

Question ID : 26433072074
Status : Not Answered
Chosen Option : --

Q.9 Select the correct option to substitute the underlined segment in the given sentence. If no substitution is required, select 'No substitution'.

One must do his work.

- Ans
- 1. their work
 - 2. her work
 - 3. one's work
 - 4. No substitution

Question ID : 26433090809

Status : Not Answered

Chosen Option : --

Q.10 Select the correct spelling of the word to fill in the blank in the given sentence.

Trouble and disease give us bad _____.

- Ans
- 1. expereinces
 - 2. experiences
 - 3. xpreiences
 - 4. xperiences

Question ID : 26433084768

Status : Not Answered

Chosen Option : --

Q.11 The following sentence has been split into four segments. Identify the segment that contains a grammatical error.

I visit my school / once a year / to meeting / my former teachers.

- Ans
- 1. once a year
 - 2. I visit my school
 - 3. my former teachers
 - 4. to meeting

Question ID : 264330108880

Status : Not Answered

Chosen Option : --

Q.12 Select the most appropriate idiom for the underlined segment.

I thought I finished my work but I realised that all of my work is faulty. I have to start it over again.

- Ans
- 1. break the back of something
 - 2. go back to the drawing board
 - 3. break new ground
 - 4. get a pat on the back

Question ID : 264330100298

Status : Not Answered

Chosen Option : --

Q.13 Select the most appropriate synonym of the word given in brackets and complete the sentence.

The weather is _____ (gloomy) and windy.

- Ans
- 1. bright
 - 2. jovial
 - 3. cloudy
 - 4. shiny

Question ID : 26433089400
Status : Not Answered
Chosen Option : --

Q.14 Select the most appropriate synonym of the given word.

Slack

- Ans
- 1. Hyperactive
 - 2. Inactive
 - 3. Provocation
 - 4. Tight

Question ID : 26433088760
Status : Not Answered
Chosen Option : --

Q.15 Identify the MISSPELT word in the following sentence.

In our school, innovative and effective academic and evaluation strategies and intervantions are needed.

- Ans
- 1. strategies
 - 2. effective
 - 3. innovative
 - 4. intervantions

Question ID : 26433073660
Status : Not Answered
Chosen Option : --

Comprehension:

In the following passage, some words have been deleted. Read the passage carefully and select the most appropriate option to fill in each blank.

And you could hardly call it a (1) _____ at all, because Uncle Bob held his (2) _____ as though he had hold of a shovel, and tried to scoop up every ball that came over the net, even those he should have left for Uncle Ted. And then he took off his (3) _____ and played in just his trousers and stockinged feet, and with his face split nearly in two by his grin, he started (4) _____ over the net, and playing on Arnold's side instead. And the ball would (5) _____ on the roof of the house, or land in the rambler roses and bring down a shower of petals, and getting it again Uncle Bob would shake down more petals all over himself, so they'd be in his hair.

SubQuestion No : 16

Q.16 Select the most appropriate option to fill in blank no. 1.

- Ans
- 1. cork
 - 2. ball
 - 3. racket
 - 4. game

Question ID : 26433092980

Status : Not Answered

Chosen Option : --

Comprehension:

In the following passage, some words have been deleted. Read the passage carefully and select the most appropriate option to fill in each blank.

And you could hardly call it a (1) _____ at all, because Uncle Bob held his (2) _____ as though he had hold of a shovel, and tried to scoop up every ball that came over the net, even those he should have left for Uncle Ted. And then he took off his (3) _____ and played in just his trousers and stockinged feet, and with his face split nearly in two by his grin, he started (4) _____ over the net, and playing on Arnold's side instead. And the ball would (5) _____ on the roof of the house, or land in the rambler roses and bring down a shower of petals, and getting it again Uncle Bob would shake down more petals all over himself, so they'd be in his hair.

SubQuestion No : 17

Q.17 Select the most appropriate option to fill in blank no. 2.

- Ans
- 1. ball
 - 2. racket
 - 3. cork
 - 4. softball

Question ID : 26433092981

Status : Not Answered

Chosen Option : --

Comprehension:

In the following passage, some words have been deleted. Read the passage carefully and select the most appropriate option to fill in each blank.

And you could hardly call it a (1) _____ at all, because Uncle Bob held his (2) _____ as though he had hold of a shovel, and tried to scoop up every ball that came over the net, even those he should have left for Uncle Ted. And then he took off his (3) _____ and played in just his trousers and stockinged feet, and with his face split nearly in two by his grin, he started (4) _____ over the net, and playing on Arnold's side instead. And the ball would (5) _____ on the roof of the house, or land in the rambler roses and bring down a shower of petals, and getting it again Uncle Bob would shake down more petals all over himself, so they'd be in his hair.

SubQuestion No : 18

Q.18 Select the most appropriate option to fill in blank no. 3.

- Ans
- 1. belt
 - 2. pants
 - 3. shirt
 - 4. trousers

Question ID : 26433092982

Status : Not Answered

Chosen Option : --

Comprehension:

In the following passage, some words have been deleted. Read the passage carefully and select the most appropriate option to fill in each blank.

And you could hardly call it a (1) _____ at all, because Uncle Bob held his (2) _____ as though he had hold of a shovel, and tried to scoop up every ball that came over the net, even those he should have left for Uncle Ted. And then he took off his (3) _____ and played in just his trousers and stockinged feet, and with his face split nearly in two by his grin, he started (4) _____ over the net, and playing on Arnold's side instead. And the ball would (5) _____ on the roof of the house, or land in the rambler roses and bring down a shower of petals, and getting it again Uncle Bob would shake down more petals all over himself, so they'd be in his hair.

SubQuestion No : 19

Q.19 Select the most appropriate option to fill in blank no. 4.

- Ans
- 1. swimming
 - 2. jumping
 - 3. slimming
 - 4. skipping

Question ID : 26433092983

Status : Not Answered

Chosen Option : --

Comprehension:

In the following passage, some words have been deleted. Read the passage carefully and select the most appropriate option to fill in each blank.

And you could hardly call it a (1) _____ at all, because Uncle Bob held his (2) _____ as though he had hold of a shovel, and tried to scoop up every ball that came over the net, even those he should have left for Uncle Ted. And then he took off his (3) _____ and played in just his trousers and stockinged feet, and with his face split nearly in two by his grin, he started (4) _____ over the net, and playing on Arnold's side instead. And the ball would (5) _____ on the roof of the house, or land in the rambler roses and bring down a shower of petals, and getting it again Uncle Bob would shake down more petals all over himself, so they'd be in his hair.

SubQuestion No : 20

Q.20 Select the most appropriate option to fill in blank no. 5.

- Ans
- 1. flake
 - 2. bounce
 - 3. leap
 - 4. jump

Question ID : 26433092984

Status : Not Answered

Chosen Option : --

Section : Part-D-Hindi

Q.1 निम्नलिखित वाक्य के रेखांकित शब्द के स्थान पर सर्वोचित विकल्प का चयन कीजिए।
उसने उपाय किया ताकि परीक्षा उत्तीर्ण कर सके।

- Ans
- 1. परिश्रम
 - 2. सहयोग
 - 3. तप
 - 4. अनुष्ठान

Question ID : 26433084963

Status : Answered

Chosen Option : 1

Q.2 'डंके की _____ पर कहना'
उक्त मुहावरे में रिक्त स्थान की पूर्ति उचित शब्द द्वारा कीजिए।

- Ans
- 1. टंकार
 - 2. चोट
 - 3. मार
 - 4. आवाज

Question ID : 26433069690

Status : Answered

Chosen Option : 2

Q.3 'चक्की के दो पाटों में कोई सबुत नहीं बचता।' इस वाक्य के निम्न में से किस शब्द में वर्तनी की अशुद्धि है?

- Ans
- 1. बचता
 - 2. सबुत
 - 3. चक्की
 - 4. पाटों

Question ID : 26433085066
Status : Answered
Chosen Option : 2

Q.4 'पंजाब _____।' उपर्युक्त वाक्य में रिक्त स्थान के लिए उपयुक्त विकल्प निम्न में से क्या होगा?

- Ans
- 1. से अभिप्राय पांच नदियों की धरती से है
 - 2. से अभिप्राय पांच संतों की धरती से है
 - 3. से अभिप्राय पांच धर्मों की धरती से है
 - 4. से अभिप्राय पांच ऋषियों की धरती से है

Question ID : 26433067050
Status : Answered
Chosen Option : 1

Q.5 'अनुचित बात के लिए आग्रह', वाक्यांश के लिए एक शब्द _____ है।

- Ans
- 1. दुराग्रह
 - 2. दुराग्रही
 - 3. सत्याग्रह
 - 4. दुस्साहस

Question ID : 26433062937
Status : Answered
Chosen Option : 3

Q.6 'घाव पर नमक _____' उपरोक्त मुहावरे में रिक्त स्थान के लिए उपयुक्त विकल्प का चयन कीजिए।

- Ans
- 1. रगड़ना
 - 2. मलना
 - 3. डालना
 - 4. छिड़कना

Question ID : 26433069685
Status : Answered
Chosen Option : 4

Q.7 निम्न में से कौन-सा शब्द समूह 'बादल' शब्द का पर्यायवाची समूह है?

- Ans
- 1. गिरी, ओद्रे
 - 2. जलधर, नग
 - 3. क्षणदा, जलधर
 - 4. जलद, नीरद

Question ID : 26433067073

Status : Answered

Chosen Option : 4

Q.8 निम्न वाक्यांश के लिए उपयुक्त एक शब्द का चयन विकल्पों में से कीजिए।
भविष्य में होने वाला

- Ans
- 1. क्रेता
 - 2. अपूर्व
 - 3. वक्ता
 - 4. भावी

Question ID : 26433070093

Status : Answered

Chosen Option : 4

Q.9 निम्नलिखित विकल्पों में से किस एक वाक्य में सर्वनाम के प्रयोग सम्बन्धी अशुद्धि है?

- Ans
- 1. जो कुछ मेरा है, वह सब आपका है।
 - 2. ये मेरे पिता जी हैं।
 - 3. मोहन तुम आकर क्षमा माँगेगा।
 - 4. तू बड़ा हो गया है, तेरी शादी करा दूँ।

Question ID : 26433062976

Status : Answered

Chosen Option : 3

Q.10 निम्नलिखित शब्द के सही पर्यायवाची शब्द का चयन विकल्पों में से कीजिए।
समुद्र

- Ans
- 1. व्याल
 - 2. सरिता
 - 3. सारंग
 - 4. पयोनिधि

Question ID : 26433066941

Status : Answered

Chosen Option : 4

Q.11 'आज की कथा को ध्यान से सुननी चाहिए।' इस वाक्य में अशुद्ध शब्द है-

- Ans
- 1. चाहिए
 - 2. ध्यान
 - 3. कथा
 - 4. सुननी

Question ID : 26433066798

Status : Answered

Chosen Option : 4

Q.12 निम्नलिखित में से शुद्ध वाक्य है-

- Ans
- 1. मोहन बहुत माधव छात्रा है।
 - 2. मोहन बहुत मेधाव छात्र है।
 - 3. मोहन बहत मेधावी छात्र है।
 - 4. मोहन बहुत मेधावी छात्र है।

Question ID : 26433080932

Status : Answered

Chosen Option : 4

Q.13 निम्नलिखित में से उस वाक्य का चयन कीजिए जिसमें 'अनिश्चयवाचक सर्वनाम' का शुद्ध प्रयोग किया गया है।

- Ans
- 1. यह कार्य कुछ नहीं कर सकता।
 - 2. मेरी समझ में कोई न कोई नहीं आ रहा है।
 - 3. आप कोई हैं जो दुखी होकर वन में भटक रहे हैं।
 - 4. आपने तो मेरी बात का कुछ का कुछ अर्थ निकाल लिया।

Question ID : 26433063007

Status : Answered

Chosen Option : 2

Q.14 निम्नलिखित में से 'युद्ध' के लिए समानार्थी शब्द नहीं है-

- Ans
- 1. संग्राम
 - 2. सहचर
 - 3. समर
 - 4. रण

Question ID : 26433085082

Status : Answered

Chosen Option : 3

Q.15 "वह व्यक्ति उनका अनुचर है।"
उक्त वाक्य में प्रयुक्त 'अनुचर' के स्थान पर उसके समानार्थी शब्द का प्रयोग निम्न में से किस वाक्य में नहीं किया गया है?

- Ans 1. वह व्यक्ति उनका निर्जर है।
 2. वह व्यक्ति उनका चाकर है।
 3. वह व्यक्ति उनका नौकर है।
 4. वह व्यक्ति उनका सेवक है।

Question ID : 26433067034

Status : Answered

Chosen Option : 1

Comprehension:

प्रश्न संख्या 1-5 के उत्तर निम्न अवतरण के आधार पर दीजिए।
भारतीय मनीषा ने जिस प्रकार संतोष करने के लिए हमें सीख दी है, उसी तरह (1). _____ करने के लिए भी कहा है। चाणक्य के अनुसार हमें इन तीन उपक्रमों में संतोष नहीं करना चाहिए- त्रिषु नैव कर्तव्यः विद्यायां जप दानयोः अर्थात् विद्यार्जन में कभी संतोष नहीं करना चाहिए कि बस, बहुत ज्ञान (2). _____ कर लिया इसी तरह जप और दान करने में भी (3). _____ नहीं करना चाहिए। वैसे संतोष करने के लिए तो कहा गया है- जब आवे संतोष धन, सब धन धुरि समान। हमें जो प्राप्त हो उसमें ही संतोष करना चाहिए- 'साईं इतना दीजिए जामे कुटुंब समाय मैं भी भूखा न रहूँ, (4). _____ न भूखा जाए। आज के मनुष्य की सांसारिकता में बढ़ती लिप्तता, वैश्विक बाजारवाद और भौतिकता की चकाचौंध के कारण संत्रास, कुंठा और असंतोष दिन-प्रतिदिन बढ़ता ही जा रहा है। इसी असंतोष को दूर करने के लिए संतोषी बनना (5). _____ हो गया है।

SubQuestion No : 16

Q.16 रिक्त स्थान (1) के लिए सर्वाधिक उपयुक्त शब्द इनमें से कौन सा होगा?

- Ans 1. असंतोष
 2. लालच
 3. प्रेम
 4. गुस्सा

Question ID : 26433092226

Status : Answered

Chosen Option : 1

Comprehension:

प्रश्न संख्या 1-5 के उत्तर निम्न अवतरण के आधार पर दीजिए।

भारतीय मनीषा ने जिस प्रकार संतोष करने के लिए हमें सीख दी है, उसी तरह (1). _____ करने के लिए भी कहा है। चाणक्य के अनुसार हमें इन तीन उपक्रमों में संतोष नहीं करना चाहिए- त्रिषु नैव कर्तव्यः विद्यायां जप दानयोः अर्थात् विद्यार्जन में कभी संतोष नहीं करना चाहिए कि बस, बहुत ज्ञान (2). _____ कर लिया इसी तरह जप और दान करने में भी (3). _____ नहीं करना चाहिए। वैसे संतोष करने के लिए तो कहा गया है- जब आवे संतोष धन, सब धन धुरि समान'। हमें जो प्राप्त हो उसमें ही संतोष करना चाहिए- 'साईं इतना दीजिए जामे कुटुंब समाय मैं भी भूखा न रहूँ, (4). _____ न भूखा जाए'। आज के मनुष्य की सांसारिकता में बढ़ती लिप्तता, वैश्विक बाज़ारवाद और भौतिकता की चकाचौंध के कारण संत्रास, कुंठा और असंतोष दिन-प्रतिदिन बढ़ता ही जा रहा है। इसी असंतोष को दूर करने के लिए संतोषी बनना (5). _____ हो गया है।

SubQuestion No : 17

Q.17 रिक्त स्थान (2) के लिए सर्वाधिक उपयुक्त शब्द इनमें से कौन सा होगा?

- Ans
- 1. प्रदान
 - 2. अर्जित
 - 3. इकठ्ठा
 - 4. दान

Question ID : 26433092227

Status : Answered

Chosen Option : 2

Comprehension:

प्रश्न संख्या 1-5 के उत्तर निम्न अवतरण के आधार पर दीजिए।

भारतीय मनीषा ने जिस प्रकार संतोष करने के लिए हमें सीख दी है, उसी तरह (1). _____ करने के लिए भी कहा है। चाणक्य के अनुसार हमें इन तीन उपक्रमों में संतोष नहीं करना चाहिए- त्रिषु नैव कर्तव्यः विद्यायां जप दानयोः अर्थात् विद्यार्जन में कभी संतोष नहीं करना चाहिए कि बस, बहुत ज्ञान (2). _____ कर लिया इसी तरह जप और दान करने में भी (3). _____ नहीं करना चाहिए। वैसे संतोष करने के लिए तो कहा गया है- जब आवे संतोष धन, सब धन धुरि समान'। हमें जो प्राप्त हो उसमें ही संतोष करना चाहिए- 'साईं इतना दीजिए जामे कुटुंब समाय मैं भी भूखा न रहूँ, (4). _____ न भूखा जाए'। आज के मनुष्य की सांसारिकता में बढ़ती लिप्तता, वैश्विक बाज़ारवाद और भौतिकता की चकाचौंध के कारण संत्रास, कुंठा और असंतोष दिन-प्रतिदिन बढ़ता ही जा रहा है। इसी असंतोष को दूर करने के लिए संतोषी बनना (5). _____ हो गया है।

SubQuestion No : 18

Q.18 रिक्त स्थान (3) के लिए सर्वाधिक उपयुक्त शब्द इनमें से कौन सा होगा?

- Ans
- 1. कम
 - 2. गुस्सा
 - 3. अधिक
 - 4. संतोष

Question ID : 26433092228

Status : Answered

Chosen Option : 4

Comprehension:

प्रश्न संख्या 1-5 के उत्तर निम्न अवतरण के आधार पर दीजिए।

भारतीय मनीषा ने जिस प्रकार संतोष करने के लिए हमें सीख दी है, उसी तरह (1). _____ करने के लिए भी कहा है। चाणक्य के अनुसार हमें इन तीन उपक्रमों में संतोष नहीं करना चाहिए- त्रिषु नैव कर्तव्यः विद्यायां जप दानयोः अर्थात् विद्यार्जन में कभी संतोष नहीं करना चाहिए कि बस, बहुत ज्ञान (2). _____ कर लिया इसी तरह जप और दान करने में भी (3). _____ नहीं करना चाहिए। वैसे संतोष करने के लिए तो कहा गया है- जब आवे संतोष धन, सब धन धुरि समान'। हमें जो प्राप्त हो उसमें ही संतोष करना चाहिए- 'साईं इतना दीजिए जामे कुटुंब समाय मैं भी भूखा न रहूँ, (4). _____ न भूखा जाए'। आज के मनुष्य की सांसारिकता में बढ़ती लिप्तता, वैश्विक बाज़ारवाद और भौतिकता की चकाचौंध के कारण संत्रास, कुंठा और असंतोष दिन-प्रतिदिन बढ़ता ही जा रहा है। इसी असंतोष को दूर करने के लिए संतोषी बनना (5). _____ हो गया है।

SubQuestion No : 19

Q.19 रिक्त स्थान (4) के लिए सर्वाधिक उपयुक्त शब्द इनमें से कौन सा होगा?

- Ans
- 1. राजा
 - 2. शत्रु
 - 3. साधु
 - 4. मित्र

Question ID : 26433092229

Status : Answered

Chosen Option : 3

Comprehension:

प्रश्न संख्या 1-5 के उत्तर निम्न अवतरण के आधार पर दीजिए।

भारतीय मनीषा ने जिस प्रकार संतोष करने के लिए हमें सीख दी है, उसी तरह (1). _____ करने के लिए भी कहा है। चाणक्य के अनुसार हमें इन तीन उपक्रमों में संतोष नहीं करना चाहिए- त्रिषु नैव कर्तव्यः विद्यायां जप दानयोः अर्थात् विद्यार्जन में कभी संतोष नहीं करना चाहिए कि बस, बहुत ज्ञान (2). _____ कर लिया इसी तरह जप और दान करने में भी (3). _____ नहीं करना चाहिए। वैसे संतोष करने के लिए तो कहा गया है- जब आवे संतोष धन, सब धन धुरि समान'। हमें जो प्राप्त हो उसमें ही संतोष करना चाहिए- 'साईं इतना दीजिए जामे कुटुंब समाय मैं भी भूखा न रहूँ, (4). _____ न भूखा जाए'। आज के मनुष्य की सांसारिकता में बढ़ती लिप्तता, वैश्विक बाज़ारवाद और भौतिकता की चकाचौंध के कारण संत्रास, कुंठा और असंतोष दिन-प्रतिदिन बढ़ता ही जा रहा है। इसी असंतोष को दूर करने के लिए संतोषी बनना (5). _____ हो गया है।

SubQuestion No : 20

Q.20 रिक्त स्थान (5) के लिए सर्वाधिक उपयुक्त शब्द इनमें से कौन सा होगा?

- Ans
- 1. आवश्यक
 - 2. नहीं
 - 3. अधिक
 - 4. कम

Question ID : 26433092230

Status : Answered

Chosen Option : 1

Constable GD in CAPFs SSF Rifleman GD in Assam Rifles and Sepoy in NCB Examination 2022

Roll Number	KD Job Updates
Candidate Name	KD Job Updates
Venue Name	IPS Digital Centre
Exam Date	07/02/2023
Exam Time	2:30 PM - 3:30 PM
Subject	Constable GD Examination 2022

Section : Part-A-General Intelligence and Reasoning

Q.1 उस विकल्प का चयन करें जो तीसरी संख्या से उसी प्रकार संबंधित है जिस प्रकार दूसरी संख्या पहली संख्या से संबंधित है और छठी संख्या पांचवी संख्या से संबंधित है।
64 : 16 :: 169 : ? :: 256 : 32

- Ans
- 1. 28
 - 2. 26
 - 3. 30
 - 4. 24

Question ID : 26433067896

Status : Answered

Chosen Option : 2

Q.2 उस विकल्प का चयन कीजिए जो तीसरे शब्द से उसी प्रकार संबंधित है जिस प्रकार दूसरा शब्द पहले शब्द से संबंधित है। (शब्दों को अर्थपूर्ण शब्दों के रूप में मानना है और उन्हें शब्द में अक्षरों/व्यंजनों/स्वरों की संख्या के आधार पर एक-दूसरे से संबंधित नहीं करना है।)
घोड़ा : अस्तबल :: पक्षी : ?

- Ans
- 1. उड़ना
 - 2. छत्ता
 - 3. घोंसला
 - 4. आकाश

Question ID : 26433069580

Status : Answered

Chosen Option : 3

Q.3 एक निश्चित कूट भाषा में, 'MOVE' को 'NQWG' लिखा जाता है और 'RUST' को 'SWTV' लिखा जाता है। उसी भाषा में 'TASK' कैसे लिखा जाएगा?

- Ans
- 1. CUUM
 - 2. UCMU
 - 3. CUMU
 - 4. UCTM

Question ID : 26433068894

Status : Answered

Chosen Option : 4

Q.4 'A + B' का अर्थ है 'B, A का दादा है'
'A @ B' का अर्थ है 'B, A का भाई है'
'A % B' का अर्थ है 'B, A की पुत्री है'
'A \$ B' का अर्थ है 'B, A का पति है'
यदि A \$ B % C @ D + E है, तो E, A से किस प्रकार संबंधित है?

- Ans
- 1. पुत्र
 - 2. भाई
 - 3. ससुर
 - 4. पिता

Question ID : 26433068531

Status : Not Answered

Chosen Option : --

Q.5 दिए गए विकल्पों में से वह संख्या चुनिए, जो निम्नलिखित श्रृंखला में प्रश्न-चिह्न (?) को प्रतिस्थापित कर सके।
73, 74, 66, 93, 29, ?

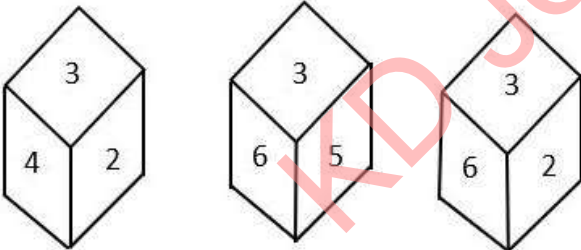
- Ans
- 1. 146
 - 2. 164
 - 3. 145
 - 4. 154

Question ID : 26433078924

Status : Not Answered

Chosen Option : --

Q.6 एक ही पासे की तीन अलग-अलग स्थितियों को दर्शाया गया है। '3' दर्शाने वाले फलक के विपरीत फलक की संख्या ज्ञात कीजिए।



- Ans
- 1. 2
 - 2. 4
 - 3. 1
 - 4. 5

Question ID : 26433090078

Status : Answered

Chosen Option : 3

Q.7 एक कूट भाषा में 'sweet fruits' को 're de', 'mango is sweet' को 'de me ke', 'orange is citrus' को 'ke le pe', 'eat orange' को 'pe ne' के रूप में कूटबद्ध किया जाता है। शब्द 'eat' के लिए कूट क्या होगा?

- Ans
- 1. de
 - 2. ne
 - 3. pe
 - 4. re

Question ID : 26433082267

Status : Answered

Chosen Option : 2

Q.8 तीन कथनों के बाद तीन निष्कर्ष I, II और III दिए गए हैं। कथनों को सत्य मानते हुए, भले ही वे सामान्य रूप से ज्ञात तथ्यों से भिन्न प्रतीत होते हों, निर्णय लीजिए कि कौन-सा/से निष्कर्ष कथनों का तार्किक रूप से अनुसरण करता/करते है/हैं।

कथन:

सभी सेब केक हैं।

सभी केक केले हैं।

कुछ केले फल हैं।

निष्कर्ष:

I. कुछ सेब केक हैं।

II. कुछ केले सेब हैं।

III. कुछ फल केले हैं।

- Ans
- 1. सभी निष्कर्ष अनुसरण करते हैं।
 - 2. निष्कर्ष I और II दोनों अनुसरण करते हैं।
 - 3. निष्कर्ष I और III दोनों अनुसरण करते हैं।
 - 4. निष्कर्ष II और III दोनों अनुसरण करते हैं।

Question ID : 26433081796

Status : Answered

Chosen Option : 1

Q.9 यदि A का अर्थ \div , B का अर्थ \times , C का अर्थ $+$ और D का अर्थ $-$ है, तो निम्नलिखित समीकरण का मान क्या होगा?

$$24 B 12 A 8 C 10 D 6 = ?$$

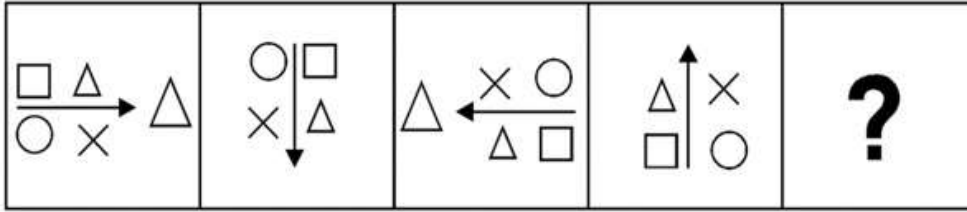
- Ans
- 1. 48
 - 2. 36
 - 3. 40
 - 4. 60

Question ID : 26433085654

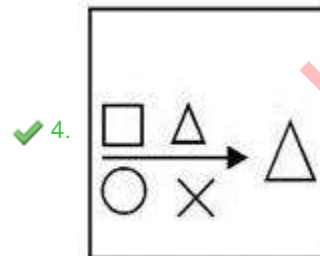
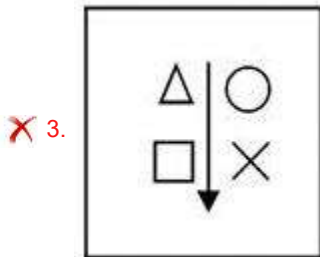
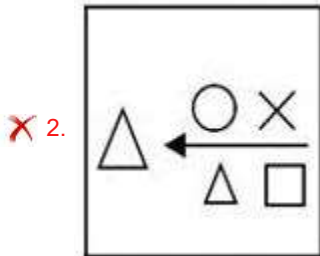
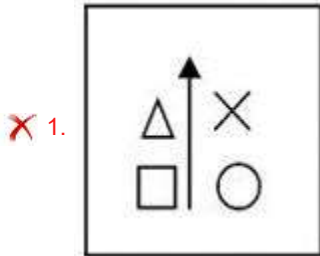
Status : Answered

Chosen Option : 3

Q.10 दिए गए विकल्पों में से उस आकृति का चयन करें जो निम्नलिखित श्रृंखला में प्रश्नवाचक चिह्न (?) का स्थान ले सकती है।



Ans



KD Job Updates

Question ID : 26433080483
 Status : Answered
 Chosen Option : 4

Q.11 सात व्यक्ति I, II, III, IV, V, VI और VII एक वृत्ताकार मेज के परितः मेज के केंद्र की ओर मुख करके बैठे हुए हैं। I और III एक दूसरे के बगल में नहीं बैठे हैं। VII, VI और IV के बीच में बैठा है। IV, I के बाईं ओर ठीक बगल में बैठा है। केवल II, V और III के बीच में बैठा है। I और VII के बीच में कौन बैठा है?

- Ans
- 1. II
 - 2. VI
 - 3. IV
 - 4. III

Question ID : 264330114208

Status : Answered

Chosen Option : 3

Q.12 कौन-सा अक्षर-समूह दी गई श्रृंखला में प्रश्नचिह्न (?) के स्थान पर आकर श्रृंखला को पूर्ण करेगा?
CMUZ, FOVB, ?, LSXF, OUYH

- Ans
- 1. IQWD
 - 2. JQWD
 - 3. IQXD
 - 4. JQXD

Question ID : 26433067949

Status : Answered

Chosen Option : 1

Q.13 नीचे दिए गए समीकरण को गणितीय रूप से सही बनाने के लिए किन दो गणितीय चिह्नों को परस्पर बदलना चाहिए?

$$135 \div 15 \times 27 + 3 - 18 = 252$$

- Ans
- 1. + और ×
 - 2. ÷ और ×
 - 3. + और -
 - 4. ÷ और +

Question ID : 264330117491

Status : Answered

Chosen Option : 4

Q.14 एक शिक्षक 10 किंडरगार्टन बच्चों को दो समानांतर पंक्तियों में इस प्रकार बैठाता है कि प्रत्येक पंक्ति में पाँच-पाँच बच्चे एक-दूसरे की ओर मुख करके बैठते हैं। अनु, बॉबी, लिली, टॉम और सुधा उत्तर की ओर मुख करके पंक्ति 1 में बैठते हैं, जबकि प्रिया, रमा, उमा, कला और गुना दक्षिण की ओर मुख करके पंक्ति 2 में बैठते हैं। लिली का मुख, गुना के ठीक बगल में बैठे व्यक्ति की ओर है। टॉम, सुधा के बाईं ओर तीसरे स्थान पर बैठा है। अनु किनारों पर नहीं बैठती है। न तो प्रिया और न ही रमा किनारों पर बैठती हैं। गुना पंक्ति के ठीक मध्य में बैठा है। लिली और टॉम के बीच में केवल एक बच्चा बैठा है। कला एक किनारे पर बैठती है, लेकिन उसका मुख सुधा की ओर नहीं है। प्रिया, रमा के दाईं ओर बैठती है, लेकिन उसके ठीक बगल में नहीं है। कौन-सा बच्चा टॉम की ओर मुख करके बैठा है?

- Ans
- 1. उमा
 - 2. गुना
 - 3. प्रिया
 - 4. कला

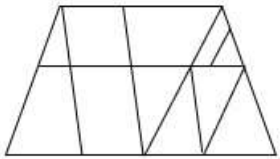
Question ID : 26433079067

Status : Not Answered

Chosen Option : --

Q.15 वह विकल्प चित्र चुनिए, जो प्रस्तुत चित्र में अंतर्निहित है। (घुमाना अनुमन्य नहीं

है)

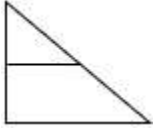


Ans

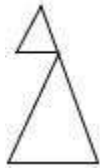
✗ 1.



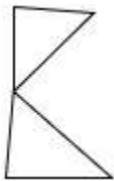
✗ 2.



✓ 3.



✗ 4.



Question ID : 26433069333

Status : Answered

Chosen Option : 3

Q.16 दर्पण को चित्र में दिखाए अनुसार MN पर रखे जाने पर दी गई आकृति के सही

दर्पण प्रतिबिंब का चयन करें।



Ans

✗ 1.

x f 2 n m 0 j k

✗ 2.

k j 0 9 w n 2 f x

✗ 3.

k j 0 9 w n 2 f x

✓ 4.

k j 0 9 w n 2 f x

Question ID : 26433082335

Status : Answered

Chosen Option : 4

Q.17 'प्रबलता' का जो संबंध 'कमजोरी' से है, वही संबंध 'साहस' का '_____ ' से है।
(शब्दों को अर्थपूर्ण शब्दों के रूप में मानना है और उन्हें शब्द में अक्षरों/व्यंजनों/स्वरों की संख्या के आधार पर एक-दूसरे से संबंधित नहीं करना है।)

- Ans
- 1. शक्ति
 - 2. झगड़ा
 - 3. कायरता
 - 4. वीरता

Question ID : 26433057749
Status : Answered
Chosen Option : 3

Q.18 कौन-सा अक्षर-समूह दी गई श्रृंखला में प्रश्नचिह्न (?) के स्थान पर आकर श्रृंखला को पूर्ण करेगा?
LQOA, ?, LUOE, LWOG, LYOI

- Ans
- 1. LRMC
 - 2. CRML
 - 3. CTPL
 - 4. LSOC

Question ID : 26433068038
Status : Answered
Chosen Option : 4

Q.19 किस विकल्प में निम्नलिखित शब्दों का वह क्रम दिया गया है, जिस क्रम में वे अंग्रेजी शब्दकोश में आते हैं?

1. lantern
2. lavish
3. lament
4. latitude
5. lately

- Ans
- 1. 3,1,4,2,5
 - 2. 3,5,1,4,2
 - 3. 3,5,4,1,2
 - 4. 3,1,5,4,2

Question ID : 26433069308
Status : Answered
Chosen Option : 4

Q.20 निम्न श्रृंखला में प्रश्न-चिह्न (?) के स्थान पर कौन सी संख्या आएगी?
57, 50, 64, ?, 71, 36

- Ans
- 1. 50
 - 2. 40
 - 3. 43
 - 4. 62

Question ID : 26433067841
Status : Answered
Chosen Option : 3

Q.1 कौन-सी पर्वत श्रृंखला शीत साइबेरियाई पवनों को भारत में प्रवेश करने से रोकती है?

- Ans
- 1. पश्चिमी घाट
 - 2. अरावली पर्वत श्रृंखला
 - 3. सतपुड़ा पर्वत श्रृंखला
 - 4. हिमालय

Question ID : 264330115980

Status : Not Answered

Chosen Option : --

Q.2 इनमें से कौन सा एक सूक्ष्म पोषक तत्व है?

- Ans
- 1. फ़ाइबर
 - 2. आयरन
 - 3. कार्बोहाइड्रेट
 - 4. जल

Question ID : 264330115231

Status : Answered

Chosen Option : 2

Q.3 निम्नलिखित में से किसे मद्रास संगीत अकादमी द्वारा TTK स्मारक पुरस्कार से सम्मानित किया गया है?

- Ans
- 1. महबूब सुभानी
 - 2. वेम्पति चिन्ना सत्यम
 - 3. उदय शंकर
 - 4. पंडित बिरजू महाराज

Question ID : 264330115848

Status : Answered

Chosen Option : 2

Q.4 SAMADHAN पोर्टल, कामगारों के लिए न्याय को सरल और त्वरित बनाने के इरादे से ऑनलाइन पंजीकरण की अनुमति देता है। औद्योगिक विवाद क्षेत्र के _____ के समक्ष उठाया जाता है।

- Ans
- 1. सुलह अधिकारी
 - 2. मंडल निरीक्षक
 - 3. सीमा-शुल्क अधिकारी
 - 4. खंड विकास अधिकारी

Question ID : 264330116194

Status : Not Answered

Chosen Option : --

Q.5 एल्युमिनियम प्रगलन भारत में _____ सबसे महत्वपूर्ण धातुकर्म उद्योग है।

- Ans
- 1. तीसरा
 - 2. पहला
 - 3. चौथा
 - 4. दूसरा

Question ID : 264330115403

Status : Answered

Chosen Option : 2

Q.6 निम्नलिखित में से कौन-सा भारत की संसदीय सरकार का सिद्धांत नहीं है?

- Ans
- 1. लोकसभा का विघटन
 - 2. बहुमत दल का शासन
 - 3. विधायिका, कार्यपालिका और न्यायपालिका के बीच शक्तियों का स्पष्ट विभाजन
 - 4. सामूहिक जिम्मेदारी

Question ID : 26433090675

Status : Answered

Chosen Option : 1

Q.7 2011 क्रिकेट विश्व कप की मेजबानी किसने की?

- Ans
- 1. भारत
 - 2. ऑस्ट्रेलिया
 - 3. भारत, श्रीलंका, बांग्लादेश
 - 4. केवल श्रीलंका, बांग्लादेश

Question ID : 264330115955

Status : Answered

Chosen Option : 3

Q.8 अर्थशास्त्रियों के अनुसार, एक गरीब राष्ट्र केवल तभी प्रगति कर सकता है, जब उसके पास अच्छा _____ हो।

- Ans
- 1. निजी क्षेत्र
 - 2. सेवा क्षेत्र
 - 3. औद्योगिक क्षेत्र
 - 4. कृषि क्षेत्र

Question ID : 264330116143

Status : Answered

Chosen Option : 3

Q.9 जनगणना 2011 के अनुसार भारत की महिला साक्षरता दर कितनी है?

Ans 1. 63.52%

2. 65.46%

3. 69.89%

4. 67.78%

Question ID : 264330116057

Status : Answered

Chosen Option : 4

Q.10 भारत के लोकतंत्र का आधार कानून का शासन है और इसका अर्थ है कि हमारे पास _____ होना चाहिए।

Ans 1. अभिव्यक्ति की स्वतंत्रता

2. एक लिखित संविधान

3. संसद की संप्रभुता

4. स्वतंत्र न्यायपालिका

Question ID : 264330115613

Status : Answered

Chosen Option : 4

Q.11 निम्नलिखित में से कौन-सी धान की फसल (paddy crop) है?

Ans 1. खीरा

2. जूट

3. चावल

4. कपास

Question ID : 264330115525

Status : Answered

Chosen Option : 3

Q.12 एक बजट दस्तावेज, जो सरकार के पूंजी खाते में परिसंपत्तियों और देयताओं से संबंधित होता है, उसे _____ कहा जाता है।

Ans 1. पूंजीगत बजट

2. शून्य बजट

3. दीर्घकालिक बजट

4. राजस्व बजट

Question ID : 264330115278

Status : Answered

Chosen Option : 1

Q.13 निम्नलिखित में से किस शास्त्रीय नृत्य शैली को मूल रूप से सादिर अट्टम के नाम से जाना जाता था?

- Ans
- 1. कुचिपुड़ी
 - 2. मणिपुरी
 - 3. सत्रीया
 - 4. भरतनाट्यम

Question ID : 264330115064
Status : Not Answered
Chosen Option : --

Q.14 नवंबर 2022 में, अजीत मोहन के स्थान पर मेटा (Meta) का नया भारतीय प्रमुख कौन बना?

- Ans
- 1. अंखी दास
 - 2. राजीव अग्रवाल
 - 3. संध्या देवनाथन
 - 4. अभिजीत बोस

Question ID : 264330114981
Status : Not Answered
Chosen Option : --

Q.15 नवंबर 2022 तक की स्थिति के अनुसार, भारत में एक राजनीतिक दल, भारतीय जनता पार्टी के अध्यक्ष कौन हैं?

- Ans
- 1. अमित शाह
 - 2. स्वतंत्र देव सिंह
 - 3. जगत प्रकाश नड्डा
 - 4. नरेन्द्र मोदी

Question ID : 264330114939
Status : Answered
Chosen Option : 3

Q.16 1962 में, मैकमोहन रेखा के क्षेत्र में भारत का युद्ध किस देश के साथ हुआ था?

- Ans
- 1. भूटान
 - 2. नेपाल
 - 3. पाकिस्तान
 - 4. चीन

Question ID : 264330115687
Status : Answered
Chosen Option : 4

Q.17 पल्लवों के अभिलेखों में कई स्थानीय सभाओं की चर्चा है। इनमें से एक था ब्राह्मण भूस्वामियों का संगठन जिसे _____ कहते थी।

- Ans
- 1. सभा
 - 2. भ्रमण
 - 3. परिषद
 - 4. नौकायन

Question ID : 264330115457
Status : Answered
Chosen Option : 3

Q.18 कॉपर क्लोराइड के साथ लेड की अभिक्रिया से कौन से उत्पाद निर्मित होते हैं?

- Ans
- 1. लेड क्लोराइड और कॉपर
 - 2. लेड ऑक्साइड और कॉपर
 - 3. लेड ऑक्साइड और कॉपर हाइड्रॉक्साइड
 - 4. कॉपर ऑक्साइड और लेड क्लोराइड

Question ID : 26433087844
Status : Answered
Chosen Option : 1

Q.19 मीराबाई चानू भारत के निम्नलिखित में से किस राज्य से संबंधित हैं?

- Ans
- 1. नागालैंड
 - 2. मणिपुर
 - 3. त्रिपुरा
 - 4. असम

Question ID : 264330116262
Status : Answered
Chosen Option : 2

Q.20 कश्मीर के लोग नवरेह उत्सव को देवी _____ को समर्पित करते हैं और इस उत्सव के दौरान उन्हें श्रद्धांजलि देते हैं।

- Ans
- 1. लक्ष्मी
 - 2. शारिका
 - 3. पार्वती
 - 4. सीता

Question ID : 264330115115
Status : Answered
Chosen Option : 2

Q.1 आकाश एक कार्य को 74 दिनों में कर सकता है। विशाल यह कार्य 37 दिनों में कर सकता है। आकाश अकेले काम शुरू करता है। कितने दिनों के बाद विशाल को उसके साथ जुड़ना चाहिए, ताकि कार्य 40 दिनों में समाप्त हो जाए?

- Ans
- 1. 16 दिन
 - 2. 23 दिन
 - 3. 25 दिन
 - 4. 19 दिन

Question ID : 264330116878

Status : Not Answered

Chosen Option : --

Q.2 एक कंपनी ने एक निश्चित कार्य को 150 दिनों में पूरा करने के लिए 200 श्रमिकों को नियोजित किया। 50 दिनों में सिर्फ एक चौथाई कार्य ही पूरा हुआ। पूरे कार्य को समय पर पूरा करने के लिए, कितने अतिरिक्त श्रमिकों को नियोजित करने की आवश्यकता है?

- Ans
- 1. 100
 - 2. 150
 - 3. 50
 - 4. 75

Question ID : 26433075988

Status : Answered

Chosen Option : 1

Q.3 एक व्यक्ति एक कार में 30 km/h की औसत चाल से 450 km की यात्रा करता है, फिर 40 km/h की चाल से 360 km की यात्रा करता है, और अंत में 50 km/h की चाल से 150 km की यात्रा करके गंतव्य तक पहुंचता है। पूरी यात्रा के दौरान उसकी औसत चाल ज्ञात कीजिए।

- Ans
- 1. $\frac{340}{9}$ km/h
 - 2. $\frac{320}{9}$ km/h
 - 3. $\frac{370}{9}$ km/h
 - 4. $\frac{310}{9}$ km/h

Question ID : 26433074302

Status : Answered

Chosen Option : 2

Q.4 रानी घर से 30 km/h की चाल से स्कूल जाती है और 20 km/h की चाल से घर वापस आती है। यदि उसके घर और स्कूल के बीच की दूरी 8 km है, तो पूरी यात्रा की औसत चाल क्या होगी?

- Ans
- 1. 28 km/h
 - 2. 22 km/h
 - 3. 24 km/h
 - 4. 26 km/h

Question ID : 26433075643

Status : Answered

Chosen Option : 3

Q.5 यदि एक ठोस लम्ब वृत्तीय बेलन का कुल पृष्ठीय क्षेत्रफल 1100 cm^2 है और इसकी त्रिज्या 7 cm है, तो इसका वक्र पृष्ठीय क्षेत्रफल ज्ञात कीजिए। ($\pi = \frac{22}{7}$ का प्रयोग करें)

- Ans
- 1. 792 cm^2
 - 2. 840 cm^2
 - 3. 562 cm^2
 - 4. 930 cm^2

Question ID : 26433080073

Status : Answered

Chosen Option : 1

Q.6 एक इन्जन के पहिया की परिधि $3\frac{3}{4} \text{ m}$ है और 2 सेकंड में 4 चक्कर लगाता है। यह ट्रेन 2 घंटे में कितनी दूरी (km में) तय करेगी?

- Ans
- 1. 50 km
 - 2. 54 km
 - 3. 70 km
 - 4. 62 km

Question ID : 26433076043

Status : Not Answered

Chosen Option : --

Q.7 स्लिंग बैग पर 10 प्रतिशत की छूट थी। मयूरी ने एक स्लिंग बैग खरीदा और नकद भुगतान करने पर 5 प्रतिशत की अतिरिक्त छूट प्राप्त की। उसने 2565 रुपए का भुगतान किया। स्लिंग बैग का मूल्य टैग क्या था?

- Ans
- 1. 3000 रुपए
 - 2. 2000 रुपए
 - 3. 2800 रुपए
 - 4. 3400 रुपए

Question ID : 264330116763

Status : Answered

Chosen Option : 1

Q.8 दो संख्याएँ 2:3 के अनुपात में हैं। यदि प्रत्येक संख्या में आठ जोड़ दिया जाए, तो उनका अनुपात 8:11 हो जाएगा। दो संख्याएँ क्या हैं?

- Ans 1. 24 और 36
 2. 12 और 18
 3. 36 और 54
 4. 18 और 27

Question ID : 26433075667
Status : Answered
Chosen Option : 1

Q.9 निम्नलिखित संख्याओं के वर्ग का औसत ज्ञात करें:
5, 8, 9, 12, 15 और 16।

- Ans 1. 131.25
 2. 131.75
 3. 132.50
 4. 130.50

Question ID : 264330116685
Status : Answered
Chosen Option : 3

Q.10 समीर ने Rs.372 प्रति दर्जन की दर से 20 दर्जन खिलौने खरीदे। उसने उनमें से प्रत्येक को Rs.32 की दर से बेचा। उसका प्रतिशत लाभ क्या था?

- Ans 1. 4.2%
 2. 3.2%
 3. 3.6%
 4. 2.2%

Question ID : 26433075232
Status : Not Answered
Chosen Option : --

Q.11 सुरेश ने अपना मोबाइल फोन मोहन को 10% के लाभ पर ₹29,700 में बेचा। सुरेश के लिए फोन का क्रय मूल्य क्या था?

- Ans 1. ₹28,000
 2. ₹27,000
 3. ₹26,000
 4. ₹25,000

Question ID : 26433074564
Status : Answered
Chosen Option : 2

Q.12 यदि पुस्तक का अंकित मूल्य 5000 रुपए है और इसे 4000 रुपए में बेचा गया है तो छूट ज्ञात करें।

- Ans 1. 1000 रुपए
 2. 1100 रुपए
 3. 1200 रुपए
 4. 1500 रुपए

Question ID : 264330116717
Status : Answered
Chosen Option : 1

Q.13 12 और 16 के महत्तम समापवर्तक और लघुत्तम समापवर्त्य का योग ज्ञात करें।

- Ans 1. 52
 2. 56
 3. 48
 4. 44

Question ID : 264330116656
Status : Answered
Chosen Option : 1

Q.14 यदि p और q एक संख्या 728pq की दो एकल अंकों वाली प्राकृत संख्याएँ हैं जिससे कि यह 80 से विभाज्य है, तो $p \times q$ किसके बराबर है?

- Ans 1. 15
 2. 0
 3. 5
 4. 10

Question ID : 26433080239
Status : Answered
Chosen Option : 2

Q.15 24 और 12 का तृतीयानुपाती ज्ञात कीजिए।

- Ans 1. 7
 2. 5
 3. 9
 4. 6

Question ID : 26433080031
Status : Answered
Chosen Option : 4

Q.16 यदि एक निश्चित राशि पर 8% वार्षिक ब्याज की दर से तीन वर्षों के चक्रवृद्धि और साधारण ब्याज के बीच का अंतर Rs.61.60 है, तो राशि ज्ञात कीजिए।

- Ans
- 1. Rs.5,050
 - 2. Rs.2,125
 - 3. Rs.4,050
 - 4. Rs.3,125

Question ID : 26433064993

Status : Not Answered

Chosen Option : --

Q.17 एक शहर की जनसंख्या में पहले वर्ष में 10% की वृद्धि होती है और दूसरे वर्ष में 10% की कमी होती है। यदि दूसरे वर्ष के अंत में जनसंख्या 990000 है, तो पहले वर्ष की शुरुआत में जनसंख्या क्या थी?

- Ans
- 1. 13,00,000
 - 2. 10,00,000
 - 3. 15,00,000
 - 4. 12,00,000

Question ID : 26433082723

Status : Answered

Chosen Option : 2

Q.18 चीनी की कीमत में 5% की कमी आई है। यदि कोई परिवार अपना खर्च चीनी पर पहले की तरह ही रखना चाहता है, तो परिवार को चीनी की खपत में _____ वृद्धि करनी होगी।

- Ans
- 1. $5\frac{2}{19}\%$
 - 2. 5%
 - 3. $5\frac{4}{19}\%$
 - 4. $5\frac{5}{19}\%$

Question ID : 26433074954

Status : Answered

Chosen Option : 4

Q.19 सर्दियों के दिनों में, दिन के समय औसत तापमान 34°C होता है। रात में तापमान गिरकर 8°C हो जाता है। प्रतिशत कमी क्या है?

- Ans
- 1. 84.68 प्रतिशत
 - 2. 76.47 प्रतिशत
 - 3. 42 प्रतिशत
 - 4. 26 प्रतिशत

Question ID : 264330116798

Status : Answered

Chosen Option : 2

Q.20 एक शंकु की ऊंचाई और त्रिज्या क्रमशः 21 cm और $7\sqrt{7}$ cm हैं। शंकु का आयतन ज्ञात करें ($\pi = \frac{22}{7}$ लें)।

- Ans
- 1. 7,634 cm³
 - 2. 6,724 cm³
 - 3. 7,546 cm³
 - 4. 6,982 cm³

Question ID : 26433076115

Status : Answered

Chosen Option : 3

Section : Part-D-English

Q.1 Select the most appropriate ANTONYM of the given word.

Tasty

- Ans
- 1. Hollow
 - 2. Insipid
 - 3. Transient
 - 4. Supreme

Question ID : 26433074382

Status : Not Answered

Chosen Option : --

Q.2 Select the most appropriate option to fill in the blank.

She needs to be _____ if she wants to stand up to her bullies.

- Ans
- 1. bolder
 - 2. boulder
 - 3. balder
 - 4. blonder

Question ID : 26433084619

Status : Not Answered

Chosen Option : --

Q.3 Select the most appropriate synonym of the given word.

Accomplish

- Ans
- 1. Fail
 - 2. Disappoint
 - 3. Approve
 - 4. Achieve

Question ID : 26433074042

Status : Not Answered

Chosen Option : --

Q.4 Select the most appropriate ANTONYM of the given word.

Officious

- Ans
- 1. Legal
 - 2. Imperial
 - 3. Timid
 - 4. Obtrusive

Question ID : 26433072417
Status : Not Answered
Chosen Option : --

Q.5 Select the INCORRECTLY spelt word.

- Ans
- 1. Maintenance
 - 2. Defroded
 - 3. Continuation
 - 4. Discrimination

Question ID : 26433073880
Status : Not Answered
Chosen Option : --

Q.6 Select the INCORRECTLY spelt word.

- Ans
- 1. Acclaim
 - 2. Opportunity
 - 3. Convenceince
 - 4. Calendar

Question ID : 26433072365
Status : Not Answered
Chosen Option : --

Q.7 Select the most appropriate meaning of the given idiom.
Be in seventh heaven

- Ans
- 1. To support someone strongly
 - 2. To be prepared for trouble
 - 3. To be impossible to understand
 - 4. To be extremely happy

Question ID : 26433086429
Status : Not Answered
Chosen Option : --

Q.8 Select the most appropriate synonym of the given word.

Baffle

- Ans
- 1. Perceive
 - 2. Convince
 - 3. Confuse
 - 4. Betray

Question ID : 26433088996
Status : Not Answered
Chosen Option : --

Q.9 Select the most appropriate option that can substitute the underlined segment in the given sentence.

The doctors always wear a right and suitable uniform.

- Ans
- 1. nice
 - 2. virtuous
 - 3. decent
 - 4. fit

Question ID : 26433086463
Status : Not Answered
Chosen Option : --

Q.10 Select the most appropriate meaning of the underlined idiom in the given sentence.

The child made a wry face when he was denied entry into the museum.

- Ans
- 1. A disappointed look
 - 2. An earnest request
 - 3. An offending remark
 - 4. An obscene gesture

Question ID : 26433072063
Status : Not Answered
Chosen Option : --

Q.11 Select the option that expresses the given sentence in past perfect tense.

- A. Fortunately, the movie had not been starting on time.
- B. Fortunately, the movie was not starting on time.
- C. Fortunately, the movie had not started on time.
- D. Fortunately, the movie did not start on time.

- Ans
- 1. A
 - 2. C
 - 3. D
 - 4. B

Question ID : 26433073518
Status : Not Answered
Chosen Option : --

Q.12 Select the most appropriate option to fill in the blank.

A feeling comes over one that so much evil and misfortune _____ the world that a little more or less does not make much difference.

- Ans
- 1. had shadowed
 - 2. shadowing
 - 3. shadow
 - 4. shadowed

Question ID : 26433092113
Status : Not Answered
Chosen Option : --

Q.13 Select the most appropriate ANTONYM of the underlined word in the following sentence.

The robbers were captured and brought to the jail.

- Ans
- 1. Released
 - 2. Composed
 - 3. Destroyed
 - 4. Seized

Question ID : 26433072239
Status : Not Answered
Chosen Option : --

Q.14 Select the most appropriate option to fill in the blank.

A couple of parrots _____ on the telephone wires.

- Ans
- 1. waited
 - 2. flew
 - 3. perched
 - 4. seeded

Question ID : 26433060334
Status : Not Answered
Chosen Option : --

Q.15 Select the most appropriate option to substitute the underlined segment in the given sentence.

He asked me if I have anything to say.

- Ans
- 1. if I has anything
 - 2. if I want anything
 - 3. if I had anything
 - 4. if I am having anything

Question ID : 26433093473
Status : Not Answered
Chosen Option : --

Comprehension:

In the following passage, some words have been deleted. Read the passage carefully and select the most appropriate option to fill in each blank.

Twenty five years ago, few people realised that computers (1) _____ about to become part of our daily lives. This short period of time has seen (2) _____ changes, in business, education and public administration. Jobs which took weeks to complete in the past are now carried out in minutes. People who spent all day copying and checking calculations are now freed from these (3) _____ tasks. Students have become as familiar with hardware and software as their parents were with pencils and exercise books. Computerisation of public records has enabled government departments to analyse the needs of citizens in detail. Some of us may wonder, (4) _____, life has really improved as a result of these changes. Many jobs disappeared, for example, when intelligent machines took over the work. Employers complain that clerical (5) _____ have become dependent on calculators and cannot do simple arithmetic.

SubQuestion No : 16

Q.16 Select the most appropriate option to fill in blank 1.

Ans 1. were

2. was

3. be

4. is

Question ID : 26433089079

Status : Not Answered

Chosen Option : --

Comprehension:

In the following passage, some words have been deleted. Read the passage carefully and select the most appropriate option to fill in each blank.

Twenty five years ago, few people realised that computers (1) _____ about to become part of our daily lives. This short period of time has seen (2) _____ changes, in business, education and public administration. Jobs which took weeks to complete in the past are now carried out in minutes. People who spent all day copying and checking calculations are now freed from these (3) _____ tasks. Students have become as familiar with hardware and software as their parents were with pencils and exercise books. Computerisation of public records has enabled government departments to analyse the needs of citizens in detail. Some of us may wonder, (4) _____, life has really improved as a result of these changes. Many jobs disappeared, for example, when intelligent machines took over the work. Employers complain that clerical (5) _____ have become dependent on calculators and cannot do simple arithmetic.

SubQuestion No : 17

Q.17 Select the most appropriate option to fill in blank 2.

Ans 1. anonymous

2. hazardous

3. enormous

4. indigenous

Question ID : 26433089080

Status : Not Answered

Chosen Option : --

Comprehension:

In the following passage, some words have been deleted. Read the passage carefully and select the most appropriate option to fill in each blank.

Twenty five years ago, few people realised that computers (1) _____ about to become part of our daily lives. This short period of time has seen (2) _____ changes, in business, education and public administration. Jobs which took weeks to complete in the past are now carried out in minutes. People who spent all day copying and checking calculations are now freed from these (3) _____ tasks. Students have become as familiar with hardware and software as their parents were with pencils and exercise books. Computerisation of public records has enabled government departments to analyse the needs of citizens in detail. Some of us may wonder, (4) _____, life has really improved as a result of these changes. Many jobs disappeared, for example, when intelligent machines took over the work. Employers complain that clerical (5) _____ have become dependent on calculators and cannot do simple arithmetic.

SubQuestion No : 18

Q.18 Select the most appropriate option to fill in blank 3.

- Ans 1. bores
 2. boring
 3. bore
 4. bored

Question ID : 26433089081

Status : Not Answered

Chosen Option : --

Comprehension:

In the following passage, some words have been deleted. Read the passage carefully and select the most appropriate option to fill in each blank.

Twenty five years ago, few people realised that computers (1) _____ about to become part of our daily lives. This short period of time has seen (2) _____ changes, in business, education and public administration. Jobs which took weeks to complete in the past are now carried out in minutes. People who spent all day copying and checking calculations are now freed from these (3) _____ tasks. Students have become as familiar with hardware and software as their parents were with pencils and exercise books. Computerisation of public records has enabled government departments to analyse the needs of citizens in detail. Some of us may wonder, (4) _____, life has really improved as a result of these changes. Many jobs disappeared, for example, when intelligent machines took over the work. Employers complain that clerical (5) _____ have become dependent on calculators and cannot do simple arithmetic.

SubQuestion No : 19

Q.19 Select the most appropriate option to fill in blank 4.

- Ans 1. subsequently
 2. therefore
 3. however
 4. for instance

Question ID : 26433089082

Status : Not Answered

Chosen Option : --

Comprehension:

In the following passage, some words have been deleted. Read the passage carefully and select the most appropriate option to fill in each blank.

Twenty five years ago, few people realised that computers (1)_____ about to become part of our daily lives. This short period of time has seen (2)_____ changes, in business, education and public administration. Jobs which took weeks to complete in the past are now carried out in minutes. People who spent all day copying and checking calculations are now freed from these (3)_____ tasks. Students have become as familiar with hardware and software as their parents were with pencils and exercise books. Computerisation of public records has enabled government departments to analyse the needs of citizens in detail. Some of us may wonder, (4)_____, life has really improved as a result of these changes. Many jobs disappeared, for example, when intelligent machines took over the work. Employers complain that clerical (5)_____ have become dependent on calculators and cannot do simple arithmetic.

SubQuestion No : 20

Q.20 Select the most appropriate option to fill in blank 5.

- Ans 1. soldiers
 2. religions
 3. staff
 4. messengers

Question ID : 26433089083

Status : Not Answered

Chosen Option : --

Section : Part-D-Hindi

Q.1 निम्न में से 'अग्नि' का पर्याय है-

- Ans 1. अमिय
 2. अम्बक
 3. अनिल
 4. अनल

Question ID : 26433062912

Status : Answered

Chosen Option : 4

Q.2 जो सुगमता से साधा जाए
ऊपर दिए गए वाक्यांश के लिए एक शब्द क्या होगा?

- Ans 1. दुर्गम्य
 2. सुगम्य
 3. दुःसाध्य
 4. सुसाध्य

Question ID : 26433070061

Status : Answered

Chosen Option : 4

Q.3 निम्न वाक्य में रेखांकित शब्द को विकल्पों में दिए गए शब्दों में से उचित शब्द से बदलें।
मुझे आशंका है कि वह इतना काम कर सकेगा या नहीं।

- Ans
- 1. भय
 - 2. शंका
 - 3. खेद
 - 4. अंदेशा

Question ID : 26433062875
Status : Answered
Chosen Option : 2

Q.4 निम्नलिखित में से शुद्ध वर्तनी वाला शब्द कौन-सा है?

- Ans
- 1. एतवार
 - 2. इतवार
 - 3. ईतवार
 - 4. ईटवार

Question ID : 26433066749
Status : Answered
Chosen Option : 2

Q.5 निम्न वाक्य में रेखांकित अंश के स्थान पर सबसे उपयुक्त विकल्प का चयन कीजिए।
उसने पुरस्कार का अपमान कर दिया।

- Ans
- 1. तिरस्कार
 - 2. आपमान
 - 3. समापन
 - 4. बेइज्जत

Question ID : 26433066870
Status : Answered
Chosen Option : 1

Q.6 'गाँव से संबंधित' वाक्यांश के लिए इनमें से उपयुक्त शब्द कौन-सा है?

- Ans
- 1. देशी
 - 2. शहरी
 - 3. ग्रामीण
 - 4. गायक

Question ID : 26433066889
Status : Answered
Chosen Option : 3

Q.7 'खून पसीना एक करना' मुहावरे का उचित अर्थ है-

- Ans
- 1. कुछ न समझना
 - 2. कठिन परिश्रम करना
 - 3. लड़ाई करना
 - 4. परिश्रम न करना

Question ID : 26433065881

Status : Answered

Chosen Option : 2

Q.8 निम्नलिखित मुहावरे के लिए उपयुक्त सार्थक शब्द क्या होगा?
आंख की किरकिरी होना

- Ans
- 1. बहुत अधिक प्रिय होना
 - 2. अप्रिय लगना
 - 3. व्यर्थ का काम करना
 - 4. आंखों में कुछ चला जाना

Question ID : 26433065780

Status : Answered

Chosen Option : 2

Q.9 निम्नलिखित विकल्पों में से किस एक वाक्य में संख्यावाचक विशेषण का उचित प्रयोग नहीं किया गया है?

- Ans
- 1. मेरी आठ बीघा जमीन ननिहाल में है।
 - 2. सौ ग्राम धनिया की कीमत क्या है?
 - 3. हमें चन्द्रमा सुन्दर प्रतीत होता है।
 - 4. राम ने दो मीटर कपड़ा खरीदा।

Question ID : 26433062968

Status : Answered

Chosen Option : 3

Q.10 'सकाम' शब्द का सही विलोम शब्द क्या होगा?

- Ans
- 1. निष्काम
 - 2. कुकाम
 - 3. निकर्म
 - 4. दुर्काम

Question ID : 26433067093

Status : Answered

Chosen Option : 2

Q.11 'भीष्म पितामह ने अविवाहित रहने का प्रण लिया था।'
उपरोक्त वाक्य में प्रयुक्त शब्द 'प्रण' के पर्यायवाची शब्द का चयन विकल्पों में से कीजिए।

- Ans
- 1. संकल्प
 - 2. कटक
 - 3. व्रत
 - 4. प्रतिज्ञा

Question ID : 26433069739
Status : Answered
Chosen Option : 4

Q.12 'जो वर्ष में एक बार होता हो' वाक्यांश के लिए सार्थक शब्द है-

- Ans
- 1. वार्षिक
 - 2. वर्षा
 - 3. एक वर्ष
 - 4. भीषण

Question ID : 26433062226
Status : Answered
Chosen Option : 1

Q.13 निम्न वाक्य में रेखांकित शब्द के उपयुक्त विलोम शब्द द्वारा रिक्त स्थान की पूर्ति कीजिए।
कभी कभी परिस्थितियाँ मनुष्य को आस्तिक से _____ बना देती हैं।

- Ans
- 1. धार्मिक
 - 2. तार्किक
 - 3. आत्यंतिक
 - 4. नास्तिक

Question ID : 26433072618
Status : Answered
Chosen Option : 4

Q.14 विकल्पों में से शुद्ध वर्तनी वाले वाक्य का चयन कीजिए।

- Ans
- 1. फ़िज़ूल खर्च मत करो।
 - 2. मीरा आटा गुँध रही है।
 - 3. शत्रु युद्धभूमी से दौड़ गया।
 - 4. सुधा नीरपराध है।

Question ID : 26433079234
Status : Not Answered
Chosen Option : --

Q.15 "निरंजन झाइवर को कार चलवाता है।"
उपरोक्त वाक्य में कारक सम्बन्धी त्रुटि पहचानकर निम्नलिखित में से शुद्ध वाक्य का चयन कीजिए।

- Ans
- 1. निरंजन झाइवर की कार चलवाता है।
 - 2. निरंजन झाइवर पर कार चलवाता है।
 - 3. निरंजन झाइवर के लिए कार चलवाता है।
 - 4. निरंजन झाइवर से कार चलवाता है।

Question ID : 26433066963

Status : Answered

Chosen Option : 4

Comprehension:

निम्नलिखित गद्यांश में कुछ शब्दों को हटा दिया गया है। दिए गए विकल्पों की सहायता से रिक्त स्थानों की पूर्ति कीजिए। प्रत्येक संख्या के लिए सबसे उपयुक्त विकल्प का चयन कीजिए।

आजकल देखा जाता है कि लोगों में त्योहारों को मनाने की 1. _____ कम होती जा रही है। पुराने उत्साह और आस्था का अभाव 2. _____ दिखाई देता है। जहाँ त्योहार मनाए भी जाते हैं उनके पीछे अन्य 3. _____ होते हैं। त्योहार मनाने के लिए समय और धन दोनों की 4. _____ होती है। जीवन में प्रतिस्पर्धा बढ़ गई है। सब बातों के केंद्र में 5. _____ आ गया है।

SubQuestion No : 16

Q.16 रिक्त स्थान 1 की पूर्ति के लिए सबसे उपयुक्त विकल्प का चयन कीजिए।

- Ans
- 1. उक्ति
 - 2. सपना
 - 3. कार्य
 - 4. प्रवृत्ति

Question ID : 264330111131

Status : Answered

Chosen Option : 4

Comprehension:

निम्नलिखित गद्यांश में कुछ शब्दों को हटा दिया गया है। दिए गए विकल्पों की सहायता से रिक्त स्थानों की पूर्ति कीजिए। प्रत्येक संख्या के लिए सबसे उपयुक्त विकल्प का चयन कीजिए।

आजकल देखा जाता है कि लोगों में त्योहारों को मनाने की 1. _____ कम होती जा रही है। पुराने उत्साह और आस्था का अभाव 2. _____ दिखाई देता है। जहाँ त्योहार मनाए भी जाते हैं उनके पीछे अन्य 3. _____ होते हैं। त्योहार मनाने के लिए समय और धन दोनों की 4. _____ होती है। जीवन में प्रतिस्पर्धा बढ़ गई है। सब बातों के केंद्र में 5. _____ आ गया है।

SubQuestion No : 17

Q.17 रिक्त स्थान 2 की पूर्ति के लिए सबसे उपयुक्त विकल्प का चयन कीजिए।

- Ans
- 1. सर्वत्र
 - 2. जग
 - 3. कम
 - 4. अछूता

Question ID : 264330111132

Status : Answered

Chosen Option : 1

Comprehension:

निम्नलिखित गद्यांश में कुछ शब्दों को हटा दिया गया है। दिए गए विकल्पों की सहायता से रिक्त स्थानों की पूर्ति कीजिए। प्रत्येक संख्या के लिए सबसे उपयुक्त विकल्प का चयन कीजिए।

आजकल देखा जाता है कि लोगों में त्योहारों को मनाने की 1. _____ कम होती जा रही है। पुराने उत्साह और आस्था का अभाव 2. _____ दिखाई देता है। जहाँ त्योहार मनाए भी जाते हैं उनके पीछे अन्य 3. _____ होते हैं। त्योहार मनाने के लिए समय और धन दोनों की 4. _____ होती है। जीवन में प्रतिस्पर्धा बढ़ गई है। सब बातों के केंद्र में 5. _____ आ गया है।

SubQuestion No : 18

Q.18 रिक्त स्थान 3 की पूर्ति के लिए सबसे उपयुक्त विकल्प का चयन कीजिए।

- Ans
- 1. त्योहार
 - 2. कारण
 - 3. गुण
 - 4. आसान

Question ID : 264330111133

Status : Answered

Chosen Option : 2

Comprehension:

निम्नलिखित गद्यांश में कुछ शब्दों को हटा दिया गया है। दिए गए विकल्पों की सहायता से रिक्त स्थानों की पूर्ति कीजिए। प्रत्येक संख्या के लिए सबसे उपयुक्त विकल्प का चयन कीजिए।

आजकल देखा जाता है कि लोगों में त्योहारों को मनाने की 1. _____ कम होती जा रही है। पुराने उत्साह और आस्था का अभाव 2. _____ दिखाई देता है। जहाँ त्योहार मनाए भी जाते हैं उनके पीछे अन्य 3. _____ होते हैं। त्योहार मनाने के लिए समय और धन दोनों की 4. _____ होती है। जीवन में प्रतिस्पर्धा बढ़ गई है। सब बातों के केंद्र में 5. _____ आ गया है।

SubQuestion No : 19

Q.19 रिक्त स्थान 4 की पूर्ति के लिए सबसे उपयुक्त विकल्प का चयन कीजिए।

- Ans
- 1. अनावश्यकता
 - 2. समझ
 - 3. बढ़ाव
 - 4. आवश्यकता

Question ID : 264330111134

Status : Answered

Chosen Option : 4

Comprehension:

निम्नलिखित गद्यांश में कुछ शब्दों को हटा दिया गया है। दिए गए विकल्पों की सहायता से रिक्त स्थानों की पूर्ति कीजिए। प्रत्येक संख्या के लिए सबसे उपयुक्त विकल्प का चयन कीजिए।

आजकल देखा जाता है कि लोगों में त्योहारों को मनाने की 1. _____ कम होती जा रही है। पुराने उत्साह और आस्था का अभाव 2. _____ दिखाई देता है। जहाँ त्योहार मनाए भी जाते हैं उनके पीछे अन्य 3. _____ होते हैं। त्योहार मनाने के लिए समय और धन दोनों की 4. _____ होती है। जीवन में प्रतिस्पर्धा बढ़ गई है। सब बातों के केंद्र में 5. _____ आ गया है।

SubQuestion No : 20

Q.20 रिक्त स्थान 5 की पूर्ति के लिए सबसे उपयुक्त विकल्प का चयन कीजिए।

- Ans
- 1. झगड़ा
 - 2. धन
 - 3. प्यार
 - 4. परिवार

Question ID : 264330111135

Status : Answered

Chosen Option : 2

KD Job Updates

Constable GD in CAPFs SSF Rifleman GD in Assam Rifles and Sepoy in NCB Examination 2022

Roll Number	KD Job Updates
Candidate Name	KD Job Updates
Venue Name	ION Digital Zone iDZ Mandi Samiti Road
Exam Date	07/02/2023
Exam Time	5:15 PM - 6:15 PM
Subject	Constable GD Examination 2022

Section : Part-A-General Intelligence and Reasoning

Q.1 एक निश्चित भाषा में DANGER को REGNAD और DETAIL को LIATED के रूप में कूटबद्ध किया जाता है। इसी भाषा में DOCTOR को किस प्रकार कूटबद्ध किया जाएगा?

- Ans
- 1. CODTOR
 - 2. ROTCOD
 - 3. CODROT
 - 4. EPDUPS

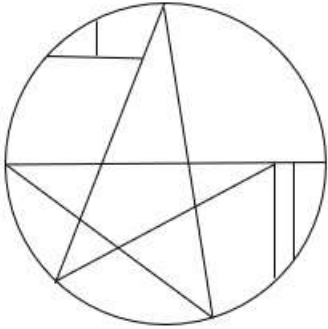
Question ID : 26433074592

Status : Answered

Chosen Option : 2

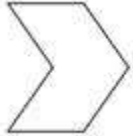
Q.2 वह विकल्प चित्र चुनिए, जो प्रस्तुत चित्र में अंतर्निहित है। (घुमाना अनुमन्य नहीं

है)



Ans

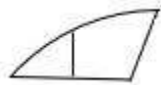
✗ 1.



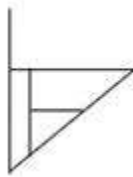
✗ 2.



✓ 3.



✗ 4.



Question ID : 26433069358

Status : Answered

Chosen Option : 3

Q.3 निम्नलिखित में से कौन-सी संख्या दी गई श्रृंखला में प्रश्न-चिह्न (?) को प्रतिस्थापित करेगी?
81, 88, 102, ?, 151, 186

Ans ✗ 1. 109

✓ 2. 123

✗ 3. 137

✗ 4. 116

Question ID : 26433069386

Status : Answered

Chosen Option : 2

Q.4 एक निश्चित कूट भाषा में, 'PROVED' को '65' और 'REMOVER' को '81' के रूप में लिखा जाता है। उसी कूट भाषा में 'DEVOUR' को किस प्रकार से लिखा जाएगा?

- Ans
- 1. 85
 - 2. 70
 - 3. 75
 - 4. 80

Question ID : 26433069474
Status : Answered
Chosen Option : 4

Q.5 किस विकल्प में निम्नलिखित शब्दों का वह क्रम दिया गया है, जिस क्रम में वे अंग्रेजी शब्दकोश में आते हैं?

1. Chair
2. Charm
3. Chauffer
4. Chain
5. Change

- Ans
- 1. 4,5,1,3,2
 - 2. 4,1,2,5,3
 - 3. 4,1,5,3,2
 - 4. 4,1,5,2,3

Question ID : 26433069273
Status : Answered
Chosen Option : 4

Q.6 दिए गए विकल्पों में से उस अक्षर-समूह का चयन कीजिए जो निम्न श्रृंखला में प्रश्न-चिह्न (?) के स्थान पर आ सकता है।
GTNS, OPVA, WLDI, ?, MDTY

- Ans
- 1. EHLQ
 - 2. EKWS
 - 3. JUFV
 - 4. JKDF

Question ID : 26433074742
Status : Answered
Chosen Option : 1

Q.7 उस विकल्प का चयन कीजिए जो तीसरे शब्द से उसी प्रकार संबंधित है जिस प्रकार दूसरा शब्द पहले शब्द से संबंधित है। (शब्दों को अर्थपूर्ण शब्दों के रूप में मानना है और उन्हें शब्द में अक्षरों/व्यंजनों/स्वरों की संख्या के आधार पर एक-दूसरे से संबंधित नहीं करना है।)
चाप : वृत्त :: कॉकपिट : ?

- Ans
- 1. बाइक
 - 2. वायुयान
 - 3. पहिया
 - 4. कार

Question ID : 26433067367
Status : Answered
Chosen Option : 3

Q.8 यदि '+' का अर्थ है '÷', '-' का अर्थ है '.', '.' का अर्थ है 'x', और 'x' का अर्थ है '+', तो निम्नलिखित में से कौन-सा अभिव्यक्ति का मान होगा?
 $63 \div 84 + 7 - 6 \times 48$

- Ans
- 1. 49
 - 2. 46
 - 3. 33
 - 4. 39

Question ID : 264330114185

Status : Answered

Chosen Option : 4

Q.9 पांच व्यक्ति K, L, M, N और O एक सीधी पंक्ति में उत्तर की ओर मुख करके बैठे हैं। L, N के बाईं ओर ठीक बगल में बैठा है। M, L के बाईं ओर ठीक बगल में बैठा है। N, O के बाईं ओर ठीक बगल में बैठा है। K पंक्ति के अंतिम दाएं सिरे पर बैठा है। पंक्ति के ठीक मध्य में कौन बैठा है?

- Ans
- 1. N
 - 2. M
 - 3. L
 - 4. O

Question ID : 26433069155

Status : Answered

Chosen Option : 1

KD Job Updates

Q.10 यदि श्रृंखला जारी रखनी है तो कौन-सी आकृति प्रश्न चिह्न (?) के स्थान पर

आएगी?

O	U	2	L	
B L 2	2 B L	O B U	U O B	?
U	O	L	2	

Ans

✗ 1.

2		
B	U	O
	L	

✓ 2.

U		
2	O	L
	B	

✗ 3.

B		
L	O	2
	U	

✗ 4.

2		
B	L	U
	O	

Question ID : 26433076624

Status : Answered

Chosen Option : 2

Q.11 निम्नलिखित में से कौन-सा अक्षर-समूह नीचे दी गई अक्षर-समूह श्रृंखला में प्रश्न-चिह्न (?) के स्थान पर आकर श्रृंखला को पूर्ण करेगा?
UH, SD, OZ, MV, ?

Ans ✗ 1. HR

✓ 2. IR

✗ 3. IQ

✗ 4. IS

Question ID : 26433067287

Status : Answered

Chosen Option : 2

Q.12 तीन कथनों के बाद 1, 2 और 3 से संख्यांकित तीन निष्कर्ष दिए गए हैं। कथनों को सत्य मानते हुए भले ही वे सामान्यतः ज्ञात तथ्यों से भिन्न प्रतीत होते हों, निर्णय लें कि कौन-सा/से निष्कर्ष कथनों का तार्किक रूप से अनुसरण करता है/करते हैं।

1. सभी कॉटन रेशम हैं।
2. सभी रेशम ऊन हैं।
3. सभी ऊन जूट हैं।

निष्कर्ष:

1. कुछ जूट रेशम हैं।
2. कुछ ऊन कॉटन हैं।
3. कुछ जूट कॉटन हैं।

Ans ✓ 1. सभी निष्कर्ष 1, 2 और 3 अनुसरण करते हैं

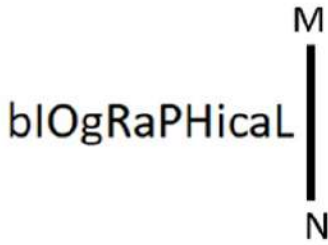
- ✗ 2. केवल निष्कर्ष 1 अनुसरण करता है
- ✗ 3. केवल निष्कर्ष 2 और 3 अनुसरण करते हैं
- ✗ 4. केवल निष्कर्ष 1 और 3 अनुसरण करते हैं

Question ID : 26433087134

Status : Answered

Chosen Option : 1

Q.13 दी गई आकृति के सही दर्पण प्रतिबिम्ब का चयन करें जब दर्पण को MN पर रखा जाए जैसा कि नीचे दर्शाया गया है।



Ans

- ✓ 1.
- ✗ 2.
- ✗ 3.
- ✗ 4.

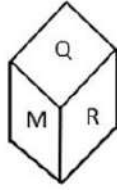
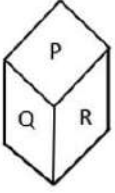
Question ID : 26433085558

Status : Answered

Chosen Option : 1

Q.14 एक ही पासे की दो अलग-अलग स्थितियों को दर्शाया गया है जिस पर 'M' से 'R' तक के वर्णाक्षर बने हैं।

'P' दर्शाने वाले फलक के विपरीत फलक पर स्थित वर्णाक्षर जात कीजिए।



- Ans
- 1. N
 - 2. M
 - 3. O
 - 4. R

Question ID : 26433085514

Status : Answered

Chosen Option : 2

Q.15 उस विकल्प का चयन करें, जो पाँचवीं संख्या से उसी प्रकार संबंधित है, जिस प्रकार दूसरी संख्या, पहली संख्या से संबंधित है और चौथी संख्या, तीसरी संख्या से संबंधित है।

2 : 1 :: 54 : 3 :: 16 : ?

- Ans
- 1. 3
 - 2. 4
 - 3. 2
 - 4. 5

Question ID : 26433069414

Status : Not Answered

Chosen Option : --

Q.16 छः विद्यार्थी एक वृत्ताकार मेज के परितः मेज के केंद्र की ओर मुख करके बैठे हैं। राजेश, रमेश के दाईं ओर दूसरे स्थान पर बैठा है। रमेश, सुरेश के बाईं ओर ठीक बगल में बैठा है। निमेश, जयेश के दाईं ओर दूसरे स्थान पर बैठा है। परेश, राजेश के दाईं ओर दूसरे स्थान पर बैठा है। जयेश, राजेश और परेश के ठीक बगल में है। रमेश और परेश के बीच में कौन बैठा है?

- Ans
- 1. निमेश
 - 2. राजेश
 - 3. सुरेश
 - 4. जयेश

Question ID : 26433081773

Status : Answered

Chosen Option : 1

Q.17 'A @ B' का अर्थ है कि 'A , B की पत्नी है'
'A & B' का अर्थ है कि 'A, B का पिता है'
'A # B' का अर्थ है कि 'A , B की बहन है'
दिए गए विकल्पों में से किसका अर्थ है कि 'P , L की माता है'?

- Ans
- 1. P @ L & S # R
 - 2. P @ R & S # L
 - 3. S @ L & R # P
 - 4. S @ P # R & L

Question ID : 26433069657

Status : Answered

Chosen Option : 2

Q.18 उस विकल्प का चयन कीजिए जो तीसरे शब्द से उसी प्रकार संबंधित है जिस प्रकार दूसरा शब्द पहले शब्द से संबंधित है। (शब्दों को अर्थपूर्ण शब्दों के रूप में माना जाना चाहिए और शब्द में अक्षरों की संख्या/व्यंजनों की संख्या/स्वरों की संख्या के आधार पर एक दूसरे से संबंधित नहीं किया जाना चाहिए)
अभियंता : निर्माण :: चिकित्सक : _____

- Ans
- 1. नष्ट करना
 - 2. निर्माण
 - 3. बनाना
 - 4. इलाज

Question ID : 26433079401

Status : Answered

Chosen Option : 4

Q.19 निम्नलिखित में से कौन-सी संख्याएँ दी गई श्रृंखला में प्रश्नवाचक चिह्न (?) का स्थान लेगी?
1, 9, 25, 49, ?, ?, 169, 225, 289

- Ans
- 1. 81, 121
 - 2. 64, 81
 - 3. 100, 121
 - 4. 81, 100

Question ID : 26433069051

Status : Answered

Chosen Option : 1

Q.20 नीचे दिए गए समीकरण को गणितीय रूप से सही बनाने के लिए किन दो चिन्हों को परस्पर बदलना चाहिए?

$$12 \times 108 - 36 \div 6 + 18 = 48$$

- Ans
- 1. + और ÷
 - 2. + और ×
 - 3. ÷ और -
 - 4. - और +

Question ID : 264330117514

Status : Answered

Chosen Option : 3

Q.1 निम्न में से कौन अपशिष्ट को छोटे कणों में विघटित करता है?

- Ans
- 1. सर्वाहारी
 - 2. शाकाहारी
 - 3. मांसाहारी
 - 4. अपरदाहारी

Question ID : 264330115250

Status : Answered

Chosen Option : 3

Q.2 हरित क्रांति का प्रमुख पहलू यह है कि इसने भारत को _____ बना दिया है।

- Ans
- 1. आत्मनिर्भर
 - 2. फसलों का सबसे बड़ा आयातक
 - 3. फसलों का सबसे बड़ा निर्यातक
 - 4. नकदी फसलों का सबसे बड़ा उत्पादक

Question ID : 264330116154

Status : Answered

Chosen Option : 4

Q.3 भारत के 2020 के राष्ट्रीय खेलों के लिए शुभंकर कौन था?

- Ans
- 1. छौआ, द डियर
 - 2. अम्मू, द ग्रेट हॉर्नबिल
 - 3. सावज, द एशियाटिक लायन
 - 4. रुबिगुला, द फ्लेम-थ्रोटेड बुलबुल

Question ID : 264330115953

Status : Not Attempted and Marked For Review

Chosen Option : --

Q.4 भारत की जलवायु को _____ प्रकार के रूप में वर्णित किया गया है।

- Ans
- 1. मानसूनी
 - 2. ठंडे
 - 3. सूखे
 - 4. बंजर

Question ID : 26433089696

Status : Answered

Chosen Option : 1

Q.5 अक्टूबर 2022 में, भारत व्यापार संवर्धन संगठन के अध्यक्ष और प्रबंध निदेशक के रूप में किसे नियुक्त किया गया?

- Ans
- 1. विभु नायर
 - 2. राहुल नार्वेकर
 - 3. प्रदीप सिंह खरोला
 - 4. नूर रहमान शेख

Question ID : 264330115004
Status : Not Answered
Chosen Option : --

Q.6 निम्नलिखित में से कौन सी भारत की सबसे पुरानी फुटबॉल प्रतियोगिता है?

- Ans
- 1. फेडरेशन कप
 - 2. डूरंड कप
 - 3. बीसी रॉय ट्रॉफी
 - 4. संतोष ट्रॉफी

Question ID : 264330116288
Status : Not Attempted and Marked For Review
Chosen Option : --

Q.7 मेकापति विक्रम रेड्डी, जो जून 2022 में आंध्र प्रदेश के अत्माकुर निर्वाचन क्षेत्र से विधान सभा सदस्य बने, _____ राजनीतिक दल से संबंधित हैं।

- Ans
- 1. भारतीय जनता पार्टी
 - 2. वाईएसआर कांग्रेस पार्टी
 - 3. भारतीय कम्युनिस्ट पार्टी
 - 4. भारतीय राष्ट्रीय कांग्रेस

Question ID : 264330114904
Status : Not Attempted and Marked For Review
Chosen Option : --

Q.8 निम्नलिखित में से कौन सी धातु ऊष्मा की सबसे अच्छी चालक है?

- Ans
- 1. सोडियम
 - 2. गोल्ड
 - 3. आयरन
 - 4. सिल्वर

Question ID : 264330115152
Status : Answered
Chosen Option : 4

Q.9 जब किसी परिवार की आय मूलभूत जीवन स्तर (भोजन, आश्रय, आवास) को बनाए रखने के लिए आवश्यक राशि से कम हो जाती है, तो इसे क्या कहा जाता है?

- Ans
- 1. पीढ़ीगत निर्धनता
 - 2. सापेक्ष निर्धनता
 - 3. निरपेक्ष निर्धनता
 - 4. परिस्थितिजन्य निर्धनता

Question ID : 264330116074

Status : Answered

Chosen Option : 4

Q.10 महामस्तकाभिषेक एक जैन त्यौहार है जो, प्रत्येक _____ वर्षों में एक बार मनाया जाता है।

- Ans
- 1. 6
 - 2. 8
 - 3. 12
 - 4. 10

Question ID : 264330115090

Status : Not Attempted and Marked For Review

Chosen Option : --

Q.11 निम्नलिखित में से किसने वज्जि पर प्रस्तावित हमले के बारे में सलाह लेने के लिए बुद्ध से मुलाकात की?

- Ans
- 1. राधागुप्त
 - 2. वस्सकार
 - 3. अशोक
 - 4. यश

Question ID : 26433089851

Status : Not Answered

Chosen Option : --

Q.12 बाल विवाह निषेध (संशोधन) विधेयक, 2021 लड़की की आयु 18 से बढ़ाकर _____ वर्ष करने का प्रस्ताव करता है।

- Ans
- 1. 21
 - 2. 22
 - 3. 24
 - 4. 20

Question ID : 264330116220

Status : Answered

Chosen Option : 1

Q.13 निम्नलिखित में से कौन सा नृत्य रूप एक अद्वितीय नृत्य रूप है क्योंकि इसमें कलाकार महिलाओं के रूप में तैयार होते हैं और यह ओडिशा के कुछ हिस्सों में लोकप्रिय है?

- Ans
- 1. थैय्यम
 - 2. गोटीपुआ
 - 3. बिहु
 - 4. फुगदी

Question ID : 264330115066
Status : Answered
Chosen Option : 1

Q.14 अंतिम (बारहवीं) पंचवर्षीय योजना का उद्देश्य क्या था?

- Ans
- 1. स्वच्छ भारत
 - 2. दोगुनी प्रति व्यक्ति आय
 - 3. त्वरित, सतत और अधिक समावेशी विकास।
 - 4. विसर्पी विकास

Question ID : 264330115370
Status : Answered
Chosen Option : 3

Q.15 दिसंबर 1929 में, _____ की अध्यक्षता में, लाहौर कांग्रेस ने 'पूर्ण स्वराज' की मांग को औपचारिक रूप दिया।

- Ans
- 1. जवाहर लाल नेहरू
 - 2. आसफ अली
 - 3. जगजीवन राम
 - 4. बलदेव सिंह

Question ID : 264330115696
Status : Answered
Chosen Option : 1

Q.16 सुपर मार्केट के संचालन की एक सीमा बताएं।

- Ans
- 1. एक ग्राहक को एक ही स्थान पर विभिन्न ब्रांडों का सामान मिल सकता है।
 - 2. सुपर मार्केट को शुरू करने और चलाने के लिए बड़ी मात्रा में पूंजी आवश्यक है।
 - 3. वे मानक गुणवत्ता वाली वस्तुएं प्रदान करते हैं।
 - 4. वे सामानों की एक विस्तृत श्रृंखला को संभालते हैं।

Question ID : 264330115548
Status : Answered
Chosen Option : 1

Q.17 राष्ट्रीय कृषि और ग्रामीण विकास बैंक (NABARD) का उद्देश्य _____ उद्योगों के प्रचार और विकास के लिए ऋण और अन्य सुविधाएं प्रदान करना है।

- Ans
- 1. शहरी
 - 2. बड़े
 - 3. आलीशान
 - 4. ग्रामीण

Question ID : 264330115301
Status : Answered
Chosen Option : 4

Q.18 निम्नलिखित में से किसे कथक में उनके योगदान के लिए पद्म श्री से सम्मानित किया गया था?

- Ans
- 1. सरोदी सैकिया
 - 2. जोगेन दत्ता बयान
 - 3. टंकेश्वर हजारिका बोरबयान
 - 4. सुनयना हजारीलाल

Question ID : 264330115874
Status : Not Answered
Chosen Option : --

Q.19 संविधान के किस अनुच्छेद के तहत एक नागरिक को कोई भी उपजीविका या व्यापार करने की स्वतंत्रता है?

- Ans
- 1. अनुच्छेद 19 (1) (g)
 - 2. अनुच्छेद 20 (c)
 - 3. अनुच्छेद 21 (f)
 - 4. अनुच्छेद 22 (b)

Question ID : 26433091448
Status : Answered
Chosen Option : 1

Q.20 निम्नलिखित में से कौन मार्च 2022 में उत्तराखंड के मुख्यमंत्री बने?

- Ans
- 1. भुवन चंद्र खंडूरी
 - 2. पुष्कर सिंह धामी
 - 3. त्रिवेन्द्र सिंह रावत
 - 4. तीरथ सिंह रावत

Question ID : 26433082244
Status : Answered
Chosen Option : 2

Q.1 यदि संख्या 'x', 3 और 2 से विभाज्य है, तो $2x^3 + 3x^2$ किससे विभाज्य होगी?

Ans 1. 108

2. 428

3. 72

4. 214

Question ID : 26433081700

Status : Answered

Chosen Option : 1

Q.2 संख्याओं 0.002, 0.04 और 0.0006 का चतुर्थानुपाती ज्ञात कीजिए।

Ans 1. 0.12×10^{-2}

2. 1.2×10^{-2}

3. 12×10^{-2}

4. 1.2×10^{-3}

Question ID : 26433091923

Status : Answered

Chosen Option : 2

Q.3 एक डीलर गेहूं को 25% लाभ पर बेचता है और वास्तविक माप से 5% कम वजन का उपयोग करता है। उसका लाभ प्रतिशत क्या है?

Ans

1. $3\frac{11}{19}\%$

2. $3\frac{1}{19}\%$

3. $23\frac{1}{19}\%$

4. $31\frac{11}{19}\%$

Question ID : 26433076078

Status : Answered

Chosen Option : 4

Q.4 R, आधे घंटे में 5 km और 400 मीटर की दूरी तय करके घर से पोस्ट ऑफिस जाता है, और फिर 90 मिनट में 25 km और 750 मीटर की दूरी तय करके कार्यालय जाता है। घर से कार्यालय तक उसकी औसत चाल km/h में कितनी है?

Ans 1. 15.755

2. 15.575

3. 17.555

4. 15.775

Question ID : 26433071259

Status : Answered

Chosen Option : 2

Q.5 A की दौड़ने की चाल B की चाल से $\frac{11}{9}$ गुनी है। यदि B को इस प्रकार शुरुआती बढ़त दी जाती है कि B, A को दौड़ की लंबाई के $\frac{1}{3}$ से हरा देता है, तो दौड़ की लंबाई का कितना भाग B को A से शुरुआती बढ़त के लिए दिया गया है? [नोट: A और B समान समय पर दौड़ना शुरू करते हैं मानिए।]

- Ans
1. $\frac{3}{11}$
2. $\frac{22}{27}$
3. $\frac{5}{11}$
4. $\frac{6}{11}$

Question ID : 26433075816

Status : Not Answered

Chosen Option : --

Q.6 ₹9,960 की राशि को 7.5% वार्षिक चक्रवृद्धि ब्याज पर उधार लिया गया और दो समान वार्षिक किश्तों में वापस भुगतान किया गया। प्रत्येक किश्त की राशि कितनी थी?

- Ans
1. ₹5,457
2. ₹5,475
3. ₹5,547
4. ₹5,745

Question ID : 26433081588

Status : Answered

Chosen Option : 3

Q.7 एक व्यापारी ने 1200 वस्तुएँ ₹1,800 में खरीदीं और उसने उन्हें 1000 वस्तुएँ ₹1,600 की दर से बेचा। लाभ या हानि प्रतिशत की गणना कीजिए।

- Ans
1. $\frac{20}{3}$ % हानि
2. $\frac{30}{7}$ % हानि
3. $\frac{20}{3}$ % लाभ
4. $\frac{30}{7}$ % लाभ

Question ID : 26433074278

Status : Answered

Chosen Option : 1

Q.8 यदि p, q और r का औसत A है और $pq + qr + rp = 0$ है, तो

$\frac{p^2+q^2+r^2}{27}$ का मान _____ है।

Ans

✗ 1. A^2

✓ 2. $\frac{A^2}{3}$

✗ 3. $9A^2$

✗ 4. $3A^2$

Question ID : 26433081542

Status : Not Answered

Chosen Option : --

Q.9 P, Q और R एक कार्य को 38 दिनों में कर सकते हैं। Q और R 76 दिनों में कार्य कर सकते हैं। दिनों की संख्या ज्ञात करें जिनमें P समान कार्य को पूरा कर सकता है।

Ans

✗ 1. 90 दिन

✗ 2. 84 दिन

✗ 3. 81 दिन

✓ 4. 76 दिन

Question ID : 264330116904

Status : Answered

Chosen Option : 4

Q.10 एक डीलर एक घड़ी पर 8% और 18% छूट की घोषणा करता है। यदि घड़ी का विक्रय मूल्य ₹943 है, तो घड़ी का अंकित मूल्य क्या है?

Ans

✓ 1. ₹1,250

✗ 2. ₹1,185

✗ 3. ₹1,480

✗ 4. ₹1,320

Question ID : 26433082670

Status : Marked For Review

Chosen Option : 1

Q.11 517, 139, 195, 176 और 192 संख्याओं का औसत ज्ञात कीजिए।

Ans 1. 315.4

2. 243.8

3. 726.3

4. 515.4

Question ID : 26433079994

Status : Answered

Chosen Option : 2

Q.12 दो उम्मीदवारों के बीच हुए एक चुनाव में, तकनीकी समस्या के कारण कुल मतों के 25% मतों को अमान्य के रूप में चिह्नित किया गया। विजेता को 7500 मत मिलते हैं, जो कुल वैध मतों के $\frac{5}{12}$ हैं। विजेता को मिले मत और अमान्य मतों के बीच का अंतर ज्ञात करें।

Ans 1. 3750

2. 7500

3. 2500

4. 0

Question ID : 26433081705

Status : Answered

Chosen Option : 1

Q.13 यदि अर्धगोले की त्रिज्या = शंकु की त्रिज्या = शंकु की ऊंचाई है, तो इस अर्धगोले के वक्र पृष्ठीय क्षेत्रफल तथा इस शंकु के वक्र पृष्ठीय क्षेत्रफल का अनुपात क्या होगा?

Ans 1. $1 : \sqrt{3}$

2. $2 : 1$

3. $1 : 2$

4. $\sqrt{2} : 1$

Question ID : 26433076087

Status : Answered

Chosen Option : 4

Q.14 चक्रवृद्धि ब्याज की किस वार्षिक दर से वार्षिक सयोजित पर कोई धनराशि 4 वर्षों में स्वयं की $\frac{625}{256}$ गुनी हो जाती है?

Ans 1. 22%

2. 25%

3. 26%

4. 20%

Question ID : 26433075116

Status : Answered

Chosen Option : 2

Q.15 एक खिलौने पर 15% की छूट है। 15% की एक और क्रमिक छूट दी जाती है। खिलौने पर प्रभावी छूट कितनी है?

- Ans 1. 32.75%
2. 27.75%
3. 25%
4. 30%

Question ID : 26433071256
Status : Answered
Chosen Option : 2

Q.16 100 cm लंबे बोर्ड को काट कर 86 cm कर दिया जाता है। कितने प्रतिशत हटा दिया गया है?

- Ans 1. 14 प्रतिशत
2. 32 प्रतिशत
3. 28 प्रतिशत
4. 20 प्रतिशत

Question ID : 264330116824
Status : Answered
Chosen Option : 1

Q.17 एक जैकेट और हैंडबैग की कीमत 3 : 2 के अनुपात में है। यदि एक जैकेट की कीमत हैंडबैग से ₹600 अधिक है, तो हैंडबैग की कीमत _____ है।

- Ans 1. ₹2,800
2. ₹1,200
3. ₹2,400
4. ₹1,800

Question ID : 26433082085
Status : Answered
Chosen Option : 2

Q.18 रोहन और सोहन एक कार्य को क्रमशः 10 दिन और 12 दिन में पूरा कर सकते हैं। यदि वे सोहन से शुरू करते हुए एकांतर दिनों में (पहले दिन सोहन और दूसरे दिन रोहन के आधार पर) कार्य करते हैं, तो पूरा कार्य कितने दिनों में समाप्त होगा?

- Ans 1. 12
2. 10
3. 11
4. 13

Question ID : 26433075570
Status : Answered
Chosen Option : 3

Q.19 एक वर्ग और एक समबाहु त्रिभुज के परिमाप बराबर हैं। यदि वर्ग का विकर्ण $12\sqrt{2}\text{cm}$ है, तो त्रिभुज का क्षेत्रफल ज्ञात कीजिए।

- Ans
- 1. $64\sqrt{5}\text{ cm}^2$
 - 2. $65\sqrt{3}\text{ cm}^2$
 - 3. $67\sqrt{2}\text{ cm}^2$
 - 4. $64\sqrt{3}\text{ cm}^2$

Question ID : 26433066324

Status : Not Answered

Chosen Option : --

Q.20 वह बड़ी से बड़ी संख्या ज्ञात करें जो 57, 93 और 191 को इस प्रकार विभाजित करे ताकि प्रत्येक स्थिति में समान शेष बचे।

- Ans
- 1. 3
 - 2. 1
 - 3. 2
 - 4. 4

Question ID : 26433075089

Status : Answered

Chosen Option : 2

Section : Part-D-English

Q.1 Select the most appropriate option to fill in the blank.

The Board of Doctors declared that the patient might take time to _____.

- Ans
- 1. come across
 - 2. walk through
 - 3. come round
 - 4. look round

Question ID : 26433072734

Status : Not Answered

Chosen Option : --

Q.2 The following sentence has been divided into parts. One of them may contain an error.

Select the part that contains the error from the given options. If you don't find any error, mark 'No error' as your answer.

Mrs. Meera and family / received his letter / a week ago.

- Ans
- 1. received his letter
 - 2. No error
 - 3. a week ago
 - 4. Mrs. Meera and family

Question ID : 264330108878

Status : Not Answered

Chosen Option : --

Q.3 Select the most appropriate ANTONYM of the word given in the brackets to fill in the blank.

We _____ (agree) to talk to terrorists.

- Ans
- 1. refuse
 - 2. admit
 - 3. grant
 - 4. allow

Question ID : 26433088853
Status : Not Answered
Chosen Option : --

Q.4 Select the most appropriate meaning of the given idiom.

To go through fire and water

- Ans
- 1. To face many challenges
 - 2. To do something easy
 - 3. To punish
 - 4. To tolerate

Question ID : 26433073710
Status : Not Answered
Chosen Option : --

Q.5 Select the INCORRECTLY spelt word.

- Ans
- 1. Reckon
 - 2. Subservent
 - 3. Subvert
 - 4. Rebuke

Question ID : 26433073655
Status : Not Answered
Chosen Option : --

Q.6 Select the most appropriate synonym of the underlined word in the following sentence.

He went to the tomb of his father to pay his tribute.

- Ans
- 1. Grave
 - 2. Funeral
 - 3. Ritual
 - 4. Mortuary

Question ID : 26433072351
Status : Not Answered
Chosen Option : --

Q.7 Select the most appropriate ANTONYM of the given word.

Dense

- Ans
- 1. Generic
 - 2. Secret
 - 3. Sparse
 - 4. Compact

Question ID : 26433071972
Status : Not Answered
Chosen Option : --

Q.8 Select the most appropriate option that can substitute the underlined segment in the given sentence.

Not only composition, but also the wrong choice of Sridhar as the singer destroyed the sweetness on the song.

- Ans
- 1. destroyed the sweetness by the song
 - 2. destroyed the sweetness in the song
 - 3. destroyed the sweetness around the song
 - 4. destroyed the sweetness of the song

Question ID : 264330100987
Status : Not Answered
Chosen Option : --

Q.9 Select the most appropriate option that can substitute the underlined segment in the given sentence. If there is no need to substitute it, select 'No substitution required'.

Who penned this book on the history of India's partition?

- Ans
- 1. No substitution required
 - 2. pen
 - 3. write
 - 4. publicise

Question ID : 26433088562
Status : Not Answered
Chosen Option : --

Q.10 Select the word that is similar in meaning to the underlined word.

My boss maintained a very parochial view of the world.

- Ans
- 1. Harmonious
 - 2. Laughing
 - 3. Narrow
 - 4. Patriarchal

Question ID : 26433087945
Status : Not Answered
Chosen Option : --

Q.11 Select the most appropriate synonym of the given word.

Ample

- Ans 1. Abundant
 2. Affectionate
 3. Insufficient
 4. Enthusiastic

Question ID : 26433073432
Status : Not Answered
Chosen Option : --

Q.12 The sentence given below has one misspelt word. Spot the INCORRECTLY spelt word and select its correct spelling.

Inkompetent employees of our company need to be sacked.

- Ans 1. Imcampotent
 2. Imcompetent
 3. Incompetent
 4. Incompitent

Question ID : 26433073553
Status : Not Answered
Chosen Option : --

Q.13 Select the most appropriate ANTONYM of the given word.
Perfume

- Ans 1. Redolence
 2. Fragrance
 3. Stench
 4. Extraordinary

Question ID : 26433086346
Status : Not Answered
Chosen Option : --

Q.14 Select the most appropriate ANTONYM of the given word.

Prosperity

- Ans 1. Wealth
 2. Failure
 3. Money
 4. Gradual

Question ID : 26433088324
Status : Not Answered
Chosen Option : --

Q.15 Select the most appropriate meaning of the given idiom.

Taste of your own medicine

- Ans**
- 1. Extremely pleased and excited about something
 - 2. Try to manage something which went wrong
 - 3. Have the same bad treatment that you have given to others
 - 4. Try everything possible

Question ID : 26433072686

Status : Not Answered

Chosen Option : --

Comprehension:

In the following passage, some words have been deleted. Read the passage carefully and select the most appropriate option to fill in each blank.

The major goal of renewable energy deployment in India is to drive economic (1)_____, improve energy security, increase access to electricity, and (2)_____ climate change. Sustainable development is attainable via the use of sustainable energy and by giving residents (3)_____ to inexpensive, dependable, sustainable, and contemporary energy. Strong government backing and an increasingly favourable economic scenario have propelled India to the (4)_____ of the world's most promising renewable energy sectors. The government has devised regulations, initiatives, and a welcoming atmosphere to (5)_____ international investment and rapidly expand the country's presence in the renewable energy sector.

SubQuestion No : 16

Q.16 Select the most appropriate option to fill in blank number 1.

- Ans**
- 1. surplus
 - 2. recession
 - 3. growth
 - 4. inflation

Question ID : 26433061007

Status : Not Answered

Chosen Option : --

Comprehension:

In the following passage, some words have been deleted. Read the passage carefully and select the most appropriate option to fill in each blank.

The major goal of renewable energy deployment in India is to drive economic (1)_____, improve energy security, increase access to electricity, and (2)_____ climate change. Sustainable development is attainable via the use of sustainable energy and by giving residents (3)_____ to inexpensive, dependable, sustainable, and contemporary energy. Strong government backing and an increasingly favourable economic scenario have propelled India to the (4)_____ of the world's most promising renewable energy sectors. The government has devised regulations, initiatives, and a welcoming atmosphere to (5)_____ international investment and rapidly expand the country's presence in the renewable energy sector.

SubQuestion No : 17

Q.17 Select the most appropriate option to fill in blank number 2.

- Ans**
- 1. increase
 - 2. exclude
 - 3. reduce
 - 4. exaggerate

Question ID : 26433061008
Status : Not Answered
Chosen Option : --

Comprehension:

In the following passage, some words have been deleted. Read the passage carefully and select the most appropriate option to fill in each blank.

The major goal of renewable energy deployment in India is to drive economic (1)_____, improve energy security, increase access to electricity, and (2)_____ climate change. Sustainable development is attainable via the use of sustainable energy and by giving residents (3)_____ to inexpensive, dependable, sustainable, and contemporary energy. Strong government backing and an increasingly favourable economic scenario have propelled India to the (4)_____ of the world's most promising renewable energy sectors. The government has devised regulations, initiatives, and a welcoming atmosphere to (5)_____ international investment and rapidly expand the country's presence in the renewable energy sector.

SubQuestion No : 18

Q.18 Select the most appropriate option to fill in blank number 3.

- Ans**
- 1. access
 - 2. power
 - 3. authority
 - 4. excess

Question ID : 26433061009
Status : Not Answered
Chosen Option : --

Comprehension:

In the following passage, some words have been deleted. Read the passage carefully and select the most appropriate option to fill in each blank.

The major goal of renewable energy deployment in India is to drive economic (1)_____, improve energy security, increase access to electricity, and (2)_____ climate change. Sustainable development is attainable via the use of sustainable energy and by giving residents (3)_____ to inexpensive, dependable, sustainable, and contemporary energy. Strong government backing and an increasingly favourable economic scenario have propelled India to the (4)_____ of the world's most promising renewable energy sectors. The government has devised regulations, initiatives, and a welcoming atmosphere to (5)_____ international investment and rapidly expand the country's presence in the renewable energy sector.

SubQuestion No : 19

Q.19 Select the most appropriate option to fill in blank number 4.

- Ans**
- 1. background
 - 2. forward
 - 3. rear
 - 4. forefront

Question ID : 26433061010
Status : Not Answered
Chosen Option : --

Comprehension:

In the following passage, some words have been deleted. Read the passage carefully and select the most appropriate option to fill in each blank.

The major goal of renewable energy deployment in India is to drive economic (1)_____, improve energy security, increase access to electricity, and (2)_____ climate change. Sustainable development is attainable via the use of sustainable energy and by giving residents (3)_____ to inexpensive, dependable, sustainable, and contemporary energy. Strong government backing and an increasingly favourable economic scenario have propelled India to the (4)_____ of the world's most promising renewable energy sectors. The government has devised regulations, initiatives, and a welcoming atmosphere to (5)_____ international investment and rapidly expand the country's presence in the renewable energy sector.

SubQuestion No : 20

Q.20 Select the most appropriate option to fill in blank number 5.

- Ans**
- 1. attract
 - 2. conceive
 - 3. examine
 - 4. borrow

Question ID : 26433061011
Status : Not Answered
Chosen Option : --

Q.1 आज राकेश ने अपनी दुकान का श्री _____ किया।
रिक्त स्थान की पूर्ति उचित शब्द द्वारा कीजिए।

- Ans
- 1. राम
 - 2. इति
 - 3. गणेश
 - 4. हरि

Question ID : 26433062614
Status : Answered
Chosen Option : 3

Q.2 दिए गए वाक्य के रेखांकित शब्द को उचित विकल्प से परिवर्तित करें।
महासागर पर पुल बन जाने पर रावण को आश्चर्य हुआ।

- Ans
- 1. हर्ष
 - 2. विस्मय
 - 3. भ्रम
 - 4. संकोच

Question ID : 26433069917
Status : Answered
Chosen Option : 2

Q.3 निम्नलिखित वाक्यांश के लिए एक सार्थक शब्द चुनें।
जो व्यक्ति अच्छे आचरण वाला हो

- Ans
- 1. सदाचारी
 - 2. समभाषी
 - 3. सहकारी
 - 4. सहयोगी

Question ID : 26433069985
Status : Answered
Chosen Option : 1

Q.4 गंगा का जल अत्यंत पावन है।
उपरोक्त वाक्य में रेखांकित शब्द के उचित पर्यायवाची शब्द का चयन विकल्पों में से कीजिए।

- Ans
- 1. मधु
 - 2. देवा
 - 3. विभूति
 - 4. देवनदी

Question ID : 26433079727
Status : Answered
Chosen Option : 4

Q.5 मिश्र वाक्य - 'लोग समझते हैं कि तुम मूर्ख हो।' निम्नलिखित विकल्पों में से इस वाक्य के लिए कौन सा एक उचित सरल वाक्य होगा ?

- Ans
- 1. तुम मूर्ख हो, लोग समझते हैं।
 - 2. मूर्ख लोग समझते हैं।
 - 3. मूर्ख लोग समझते तुम्हें हैं।
 - 4. लोग तुम्हें मूर्ख समझते हैं।

Question ID : 26433062435

Status : Answered

Chosen Option : 4

Q.6 निम्नलिखित वाक्य के रिक्त स्थान में सबसे उपयुक्त मुहावरा क्या होगा?
'इस पद पर पहुँचने से पहले उसे बहुत _____ है।'

- Ans
- 1. बाजी मारना
 - 2. पापड़ बेलने पड़े
 - 3. नौ-दो ग्यारह
 - 4. एक एक ग्यारह

Question ID : 26433066724

Status : Answered

Chosen Option : 2

Q.7 निम्न में से कौन सा वाक्य संबोधन कारक का उदाहरण नहीं है?

- Ans
- 1. अजी तुम उसे क्या मारोगे?
 - 2. आलोक माँ के लिए दवाई लाया।
 - 3. अरे भाई ! यहाँ आओ।
 - 4. हे भगवान ! तू सबका भला कर।

Question ID : 26433079226

Status : Answered

Chosen Option : 1

Q.8 निम्नलिखित वाक्य में कौन सा शब्द क्रिया शब्द है?
मैंने आशा को मीनार दिखाई।

- Ans
- 1. आशा
 - 2. मैंने
 - 3. दिखाई
 - 4. मीनार

Question ID : 26433085039

Status : Answered

Chosen Option : 3

Q.9 'जो किए जाने योग्य हो' इस वाक्यांश के लिए सार्थक शब्द है -

- Ans 1. करणीय
 2. अनुकरणीय
 3. कथित
 4. अकरणीय

Question ID : 26433062339
Status : Answered
Chosen Option : 2

Q.10 निम्नलिखित में से शुद्ध वाक्य है-

- Ans 1. दीपक गाय चारता है।
 2. दीपक गाय चराता है।
 3. दीपक गाय चरता है।
 4. दीपक गाय चरत है।

Question ID : 26433066838
Status : Answered
Chosen Option : 2

Q.11 निम्नलिखित में से कौन सा शब्द अनेकार्थी शब्द है?

- Ans 1. गुलाब
 2. बेला
 3. चमेली
 4. रातरानी

Question ID : 26433091321
Status : Not Attempted and
Marked For Review
Chosen Option : --

Q.12 निम्नलिखित वाक्य में रेखांकित शब्द के विलोम शब्द का प्रयोग करके रिक्त स्थान की पूर्ति कीजिए।
दुराचार से व्यक्ति का _____ नष्ट हो जाता है।

- Ans 1. यश
 2. विचार
 3. फल
 4. सदाचार

Question ID : 26433091344
Status : Answered
Chosen Option : 4

Q.13 'रमेश की माँ को गम्भीर बिमारी है।' वाक्य में अशुद्ध वर्तनी वाला शब्द है -

- Ans 1. बिमारी
 2. रमेश
 3. गम्भीर
 4. माँ

Question ID : 26433069694

Status : Answered

Chosen Option : 1

Q.14 वाक्यांशों और उनके लिए एक शब्द का निम्नलिखित में से कौन सा युग्म अशुद्ध है?

- Ans 1. लेने की इच्छा-लिप्सा
 2. जो किसी से जीता न जा सके-अजेय
 3. सात दिन का समूह-सप्ताह
 4. नाप तौलकर खर्च करने वाला-मितभाषी

Question ID : 26433086289

Status : Answered

Chosen Option : 4

Q.15 निम्नलिखित में से क्या 'मान' का अर्थ नहीं है?

- Ans 1. इज्जत
 2. अभिमान
 3. श्रेष्ठ
 4. सम्मान

Question ID : 26433080941

Status : Answered

Chosen Option : 3

Comprehension:

निम्नलिखित गद्यांश में कुछ शब्दों को हटा दिया गया है। दिए गए विकल्पों की सहायता से रिक्त स्थानों की पूर्ति कीजिए। प्रत्येक संख्या के लिए सबसे उपयुक्त विकल्प का चयन कीजिए।
कविता बनाना 1. _____ नहीं है। यह भगवान द्वारा मिला 2. _____ है। यह गुण अनेक लोगों में होता है, 3. _____ उन्हें इसका बोध नहीं होता। सही 4. _____ मिलने पर उनकी सोई हुई काव्य- प्रतिभा जाग उठती है।
अतः अध्यापकों का 5. _____ बनता है कि वे बच्चों की काव्य-प्रतिभा के विकास का उपाय करें। केवल यह कहने पर कि बारिश पर कविता बनाओ विद्यार्थी कुछ भी नहीं कर पाते।

SubQuestion No : 16

Q.16 रिक्त स्थान 1 की पूर्ति के लिए सबसे उपयुक्त विकल्प का चयन करें।

- Ans 1. कठिन
 2. मुश्किल
 3. खेल
 4. नामुमकिन

Question ID : 264330110921

Status : Answered

Chosen Option : 3

Comprehension:

निम्नलिखित गद्यांश में कुछ शब्दों को हटा दिया गया है। दिए गए विकल्पों की सहायता से रिक्त स्थानों की पूर्ति कीजिए। प्रत्येक संख्या के लिए सबसे उपयुक्त विकल्प का चयन कीजिए।
कविता बनाना 1. _____ नहीं है। यह भगवान द्वारा मिला 2. _____ है। यह गुण अनेक लोगों में होता है, 3. _____ उन्हें इसका बोध नहीं होता। सही 4. _____ मिलने पर उनकी सोई हुई काव्य- प्रतिभा जाग उठती है।
अतः अध्यापकों का 5. _____ बनता है कि वे बच्चों की काव्य-प्रतिभा के विकास का उपाय करें। केवल यह कहने पर कि बारिश पर कविता बनाओ विद्यार्थी कुछ भी नहीं कर पाते।

SubQuestion No : 17

Q.17 रिक्त स्थान 2 की पूर्ति के लिए सबसे उपयुक्त विकल्प का चयन करें।

- Ans 1. श्राप
 2. वरदान
 3. बद्दुआ
 4. अभिशाप

Question ID : 264330110922

Status : Answered

Chosen Option : 2

Comprehension:

निम्नलिखित गद्यांश में कुछ शब्दों को हटा दिया गया है। दिए गए विकल्पों की सहायता से रिक्त स्थानों की पूर्ति कीजिए। प्रत्येक संख्या के लिए सबसे उपयुक्त विकल्प का चयन कीजिए।
कविता बनाना 1. _____ नहीं है। यह भगवान द्वारा मिला 2. _____ है। यह गुण अनेक लोगों में होता है, 3. _____ उन्हें इसका बोध नहीं होता। सही 4. _____ मिलने पर उनकी सोई हुई काव्य- प्रतिभा जाग उठती है।
अतः अध्यापकों का 5. _____ बनता है कि वे बच्चों की काव्य-प्रतिभा के विकास का उपाय करें। केवल यह कहने पर कि बारिश पर कविता बनाओ विद्यार्थी कुछ भी नहीं कर पाते।

SubQuestion No : 18

Q.18 रिक्त स्थान 3 की पूर्ति के लिए सबसे उपयुक्त विकल्प का चयन करें।

- Ans 1. द्वारा
 2. की
 3. परन्तु
 4. और

Question ID : 264330110923

Status : Answered

Chosen Option : 3

Comprehension:

निम्नलिखित गद्यांश में कुछ शब्दों को हटा दिया गया है। दिए गए विकल्पों की सहायता से रिक्त स्थानों की पूर्ति कीजिए। प्रत्येक संख्या के लिए सबसे उपयुक्त विकल्प का चयन कीजिए।
कविता बनाना 1. _____ नहीं है। यह भगवान द्वारा मिला 2. _____ है। यह गुण अनेक लोगों में होता है, 3. _____ उन्हें इसका बोध नहीं होता। सही 4. _____ मिलने पर उनकी सोई हुई काव्य- प्रतिभा जाग उठती है।
अतः अध्यापकों का 5. _____ बनता है कि वे बच्चों की काव्य-प्रतिभा के विकास का उपाय करें। केवल यह कहने पर कि बारिश पर कविता बनाओ विद्यार्थी कुछ भी नहीं कर पाते।

SubQuestion No : 19

Q.19 रिक्त स्थान 4 की पूर्ति के लिए सबसे उपयुक्त विकल्प का चयन करें।

- Ans 1. मौका न मिलने पर
 2. अवसर
 3. अकेले होने पर
 4. दुखी होने पर

Question ID : 264330110924

Status : Answered

Chosen Option : 2

Comprehension:

निम्नलिखित गद्यांश में कुछ शब्दों को हटा दिया गया है। दिए गए विकल्पों की सहायता से रिक्त स्थानों की पूर्ति कीजिए। प्रत्येक संख्या के लिए सबसे उपयुक्त विकल्प का चयन कीजिए।
कविता बनाना 1. _____ नहीं है। यह भगवान द्वारा मिला 2. _____ है। यह गुण अनेक लोगों में होता है, 3. _____ उन्हें इसका बोध नहीं होता। सही 4. _____ मिलने पर उनकी सोई हुई काव्य- प्रतिभा जाग उठती है।
अतः अध्यापकों का 5. _____ बनता है कि वे बच्चों की काव्य-प्रतिभा के विकास का उपाय करें। केवल यह कहने पर कि बारिश पर कविता बनाओ विद्यार्थी कुछ भी नहीं कर पाते।

SubQuestion No : 20

Q.20 रिक्त स्थान 5 की पूर्ति के लिए सबसे उपयुक्त विकल्प का चयन करें।

- Ans 1. योग्यता
 2. कर्तव्य
 3. काम नहीं है
 4. अकर्तव्य

Question ID : 264330110925

Status : Answered

Chosen Option : 2

Constable GD in CAPFs SSF Rifleman GD in Assam Rifles and Sepoy in NCB Examination 2022

Roll Number	KD Job Updates
Candidate Name	KD Job Updates
Venue Name	iON Digital Zone iDZ Naino Ka Bas
Exam Date	08/02/2023
Exam Time	9:00 AM - 10:00 AM
Subject	Constable GD Examination 2022

Section : Part-A-General Intelligence and Reasoning

Q.1 उस विकल्प का चयन करें, जो पाँचवीं संख्या से उसी प्रकार संबंधित है, जिस प्रकार दूसरी संख्या, पहली संख्या से संबंधित है और चौथी संख्या, तीसरी संख्या से संबंधित है।
76 : 16 :: 56 : 12 :: 21 : ?

- Ans
- 1. 18
 - 2. 7
 - 3. 5
 - 4. 11

Question ID : 26433069427

Status : Answered

Chosen Option : 3

Q.2 किस विकल्प में निम्नलिखित शब्दों का वह क्रम दिया गया है, जिस क्रम में वे अंग्रेजी शब्दकोश में आते हैं?
1. lastly
2. latex
3. large
4. laminate
5. ladle

- Ans
- 1. 5,4,3,2,1
 - 2. 5,4,3,1,2
 - 3. 5,2,3,1,4
 - 4. 5,1,3,4,2

Question ID : 26433069328

Status : Answered

Chosen Option : 2

Q.3 निम्नलिखित में से कौन-सा पद दी गई श्रृंखला में प्रश्न-चिह्न (?) के स्थान पर आएगा?
RLMT, QNJX, PPGb, ORDF, ?

- Ans
- 1. UTNB
 - 2. TNUA
 - 3. NTAJ
 - 4. ATUN

Question ID : 26433068986

Status : Answered

Chosen Option : 3

Q.4 तीन कथन दिए गए हैं, जिनके बाद तीन निष्कर्ष I, II और III दिए गए हैं। कथनों को सत्य मानते हुए, भले ही वे सामान्य रूप से ज्ञात तथ्यों से भिन्न प्रतीत होते हों, निर्धारित करें कि कौन-सा/से निष्कर्ष कथनों का तार्किक रूप से अनुसरण करता है/करते हैं।

कथन:

कुछ लैंप घड़ियां हैं।
सभी घड़ियां किताबें हैं।
कुछ किताबें पत्थर हैं।

निष्कर्ष:

- I. कुछ लैंप पत्थर हैं।
- II. कुछ किताबें लैंप हैं।
- III. कुछ घड़ियां पत्थर हैं।

- Ans
- 1. सभी निष्कर्ष अनुसरण करते हैं
 - 2. केवल निष्कर्ष II अनुसरण करता है
 - 3. केवल निष्कर्ष I और II अनुसरण करते हैं
 - 4. केवल निष्कर्ष I और III अनुसरण करते हैं

Question ID : 26433090988

Status : Answered

Chosen Option : 2

Q.5 दिए गए विकल्पों में से उस अक्षर-समूह का चयन कीजिए जो निम्न श्रृंखला में प्रश्न-चिह्न (?) के स्थान पर आ सकता है।
GZT, ZSM, SLF, LEY, ?

- Ans
- 1. GXP
 - 2. GXR
 - 3. EXR
 - 4. EXP

Question ID : 26433079036

Status : Answered

Chosen Option : 3

Q.6 उस विकल्प का चयन करें जो तीसरे शब्द से उसी प्रकार संबंधित है जिस प्रकार दूसरा शब्द पहले शब्द से संबंधित है। (शब्दों को अर्थपूर्ण शब्दों के रूप में मानना है, और उन्हें शब्द में अक्षरों/व्यंजनों/स्वरों की संख्या के आधार पर एक-दूसरे से संबंधित नहीं करना है।)
तीव्र : धीमा :: ऊपर : ?

- Ans
- 1. नीचे
 - 2. आकाश
 - 3. महान
 - 4. विशाल

Question ID : 26433082939


Status : Answered

Chosen Option : 1

Q.7 दर्पण को दाईं ओर रखे जाने पर, निम्नलिखित में से कौन-सी आकृति दी गई प्रश्न आकृति

का सटीक दर्पण प्रतिबिम्ब होगी?

प्रश्न आकृति:

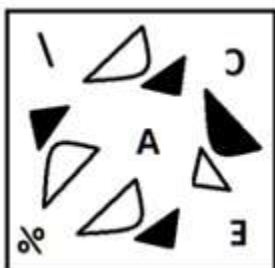


Ans

X 1.



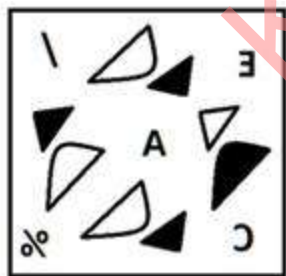
X 2.



X 3.



✓ 4.



Question ID : 26433087089

Status : Answered

Chosen Option : 4

Q.8 निम्नलिखित में से कौन-सी संख्या दी गई श्रृंखला में प्रश्न-चिह्न (?) के स्थान पर आएगी?
600, 120, 30, 10, ?


- Ans
- 1. 1
 - 2. 15
 - 3. 5
 - 4. 12

Question ID : 26433082014

Status : Answered


Chosen Option : 3

Q.9 दिए गए विकल्पों में से उस आकृति का चयन करें जो निम्न श्रृंखला में प्रश्नवाचक चिह्न (?) के स्थान पर आ सकती है।




Ans

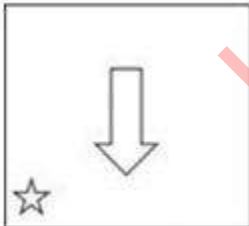
1.



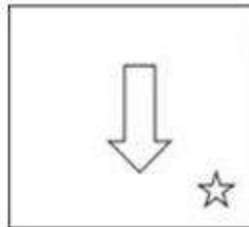
2.



3.



4.



Question ID : 26433080754

Status : Answered

Chosen Option : 4

Q.10 नीचे दिए गए समीकरण को गणितीय रूप से सही बनाने के लिए किन दो चिन्हों को परस्पर बदलना चाहिए?

$$165 - 15 \div 5 + 6 \times 16 = 102$$

- Ans
- 1. + और ÷
 - 2. + और ×
 - 3. - और +
 - 4. ÷ और -

Question ID : 264330117555

Status : Answered

Chosen Option : 4

Q.11 एक निश्चित कूट भाषा में, 'BRIGHT' को 'JSCVJI' के रूप में लिखा जाता है और 'BROKEN' को 'PSCPGM' के रूप में लिखा जाता है। उसी भाषा में 'BUDGET' को कैसे लिखा जाएगा?

- Ans
- 1. EVCVGI
 - 2. DUBTEG
 - 3. TEGDUB
 - 4. EVCTEG

Question ID : 26433090039

Status : Answered

Chosen Option : 1

Q.12 A + B का अर्थ है 'A, B का भाई है'।
'A - B' का अर्थ है 'A, B की माँ है'।
'A × B' का अर्थ है 'A, B का पति है'।
'A ÷ B' का अर्थ है 'A, B की बहन है'।
'A @ B' का अर्थ है 'A, B का बेटा है'।
यदि J @ K × L - M ÷ N है तो J, N से किस प्रकार संबंधित है?

- Ans
- 1. भांजा
 - 2. जीजा
 - 3. भाई
 - 4. मौसी

Question ID : 26433086998

Status : Answered

Chosen Option : 3

Q.13 उस विकल्प का चयन कीजिए जो तीसरे शब्द से उसी प्रकार संबंधित है जिस प्रकार दूसरा शब्द पहले शब्द से संबंधित है। (शब्दों को अर्थपूर्ण शब्दों के रूप में मानना है और उन्हें शब्द में अक्षरों/व्यंजनों/स्वरों की संख्या के आधार पर एक-दूसरे से संबंधित नहीं करना है।)
क्रिकेट : बैट :: बैडमिंटन : ?

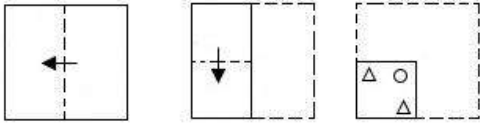
- Ans
- 1. गेंद
 - 2. खिलाड़ी
 - 3. स्टिक
 - 4. रैकेट

Question ID : 26433067804

Status : Answered

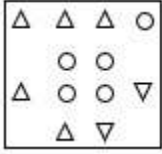
Chosen Option : 4

Q.14 एक कागज को नीचे दर्शाए गए अनुसार मोड़ा और काटा जाता है। खोले जाने पर यह कैसा दिखाई देगा?

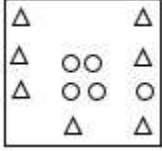


Ans

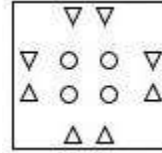
✗ 1.



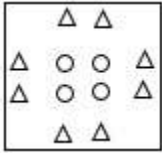
✗ 2.



✓ 3.



✗ 4.



Question ID : 26433090086

Status : Answered

Chosen Option : 3

Q.15 एक निश्चित कूट भाषा में 'MAKE' को '32' के रूप में लिखा जाता है और 'QUAD' को '45' के रूप में लिखा जाता है। उसी भाषा में 'SELF' को कैसे लिखा जाएगा?

Ans ✗ 1. 46

✓ 2. 44

✗ 3. 42

✗ 4. 40

Question ID : 26433069646

Status : Answered

Chosen Option : 2

Q.16 सात व्यक्ति, A, B, C, D, E, F और G एक सीधी पंक्ति में उत्तर की ओर मुख करके बैठे हैं। E के दाईं ओर केवल दो व्यक्ति बैठे हैं। E और A के बीच में केवल दो व्यक्ति बैठे हैं। B, A के दाईं ओर दूसरे स्थान पर बैठा है। D, F के दाईं ओर ठीक बगल में बैठा है। C, G के बाईं ओर किसी एक स्थान पर बैठा है। पंक्ति के बाएं सिरे पर कौन बैठा है?

- Ans 1. F
 2. A
 3. C
 4. B

Question ID : 26433092418

Status : Answered

Chosen Option : 3

Q.17 निम्नलिखित में से कौन सा विकल्प दी गई श्रृंखला में प्रश्न चिह्न (?) को प्रतिस्थापित करेगा?
176, 326, 526, 776, ?, 1426, 1826

- Ans 1. 1176
 2. 1276
 3. 976
 4. 1076

Question ID : 26433089437

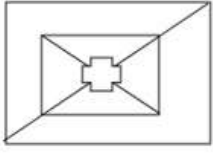
Status : Answered

Chosen Option : 4

KD Job Updates


Q.18 उस विकल्प का चयन कीजिए, जो दी गई आकृति में अंतर्निहित है (घूमने की

अनुमति नहीं है)।




Ans

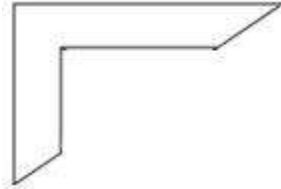
✗ 1.




✗ 2.



✓ 3.



✗ 4.



Question ID : 26433082898

Status : Answered

Chosen Option : 3

Q.19 सात व्यक्ति, L, M, N, O, P, Q, और R एक पंक्ति में उत्तर की ओर मुख करके बैठे हैं। R और P पंक्ति के सिरों पर बैठे हैं। N, P के दाईं ओर ठीक बगल में बैठा है। M, R के बाईं ओर तीसरे स्थान पर बैठा है। O, M के दाईं ओर ठीक बगल में बैठा है। L, N और M के बीच में बैठा है। R के बाईं ओर ठीक बगल में कौन बैठा है?

Ans ✗ 1. P

✗ 2. M

✓ 3. Q

✗ 4. L

Question ID : 26433074629

Status : Answered

Chosen Option : 3

Q.20 दिए गए समीकरण को संतुलित करने के लिए विकल्पों में दी गई किन दो संख्याओं(अंको को नहीं) को परस्पर बदलना होगा?
 $540 + 225 \div 15 \times 25 - 260 = 415$

- Ans 1. 15 और 25
 2. 225 और 260
 3. 15 और 260
 4. 225 और 25

Question ID : 26433090139
Status : Answered
Chosen Option : 1

Section : Part-B-General Knowledge and General awareness

Q.1 निम्नलिखित में से किसका संबंध भारतीय शास्त्रीय नृत्य की एक शैली से है?

- Ans 1. जाकिर हुसैन
 2. अमजद अली खान
 3. रानी कर्णा
 4. सुकन्या रामगोपाल

Question ID : 26433070806
Status : Answered
Chosen Option : 3

Q.2 भारतीय संविधान के अंतर्गत उच्चतम न्यायालय निम्नलिखित में से कौन सा मूल अधिकारों के प्रवर्तन के लिए जारी कर सकता है?

- Ans 1. रिट
 2. अधिसूचना
 3. अध्यादेश
 4. हुक्मनामा

Question ID : 264330115643
Status : Answered
Chosen Option : 1

Q.3 फ्रील्ड हॉकी में, एक टीम से कितने खिलाड़ी खेलते हैं?

- Ans 1. 12
 2. 10
 3. 11
 4. 8

Question ID : 264330116302
Status : Answered
Chosen Option : 3

Q.4 भारत में, श्वेत क्रांति को _____ के नाम से भी जाना जाता है।

- Ans
- 1. ऑपरेशन मिल्क
 - 2. ऑपरेशन डेयरी
 - 3. ऑपरेशन फ्लड
 - 4. ऑपरेशन डैम

Question ID : 264330115421

Status : Answered

Chosen Option : 3

Q.5 गुप्त शासक समुद्र गुप्त की प्रशंसा में लिखित प्रयाग प्रशस्ति या इलाहाबाद स्तंभ के रचयिता कौन थे?

- Ans
- 1. कालिदास
 - 2. भास
 - 3. हरिसेना
 - 4. विशाखदत्त

Question ID : 26433099150

Status : Answered

Chosen Option : 4

Q.6 Match the following:

- a) National Highways i) Zila Parishad
- b) State Highways ii) State Public Works Department
- c) Border Roads iii) Central Public Works Department
- d) District Roads iv) Border Roads Organisation

- Ans
- 1. a-iii,b-ii,c-i,d-iv
 - 2. a-iv,b-iii,c-i,d-ii
 - 3. a-ii,b-iii,c-iv,d-i
 - 4. a-iii,b-ii,c-iv,d-i

Question ID : 264330115589

Status : Answered

Chosen Option : 4

Q.7 त्रिपुरा की खर्ची पूजा में कितने देवताओं की पूजा की जाती है?

- Ans
- 1. 9
 - 2. 14
 - 3. 13
 - 4. 8

Question ID : 264330106216

Status : Answered

Chosen Option : 4

Q.8 निम्नलिखित में से किस जोखिम का संबंध हरित क्रांति से है?

- Ans
- 1. खाद्यान्न उत्पादन में वृद्धि
 - 2. किसानों की आय में वृद्धि
 - 3. छोटे और बड़े किसानों के बीच बढ़ती असमानता
 - 4. खाद्यान्नों की उत्पादकता में वृद्धि

Question ID : 26433054628

Status : Answered

Chosen Option : 3

Q.9 भारत जोड़ो यात्रा 2022 का नेतृत्व किसने किया?

- Ans
- 1. प्रियंका गांधी
 - 2. तरुण गांधी
 - 3. राहुल गांधी
 - 4. सोनिया गांधी

Question ID : 264330115045

Status : Answered

Chosen Option : 3

Q.10 कलामंडलम कल्याणीकुट्टी अम्मा को _____ में उनके कार्यों के लिए प्रसिद्धि और पहचान मिली।

- Ans
- 1. सत्रीया
 - 2. मोहिनीअट्टम
 - 3. रचनात्मक नृत्य
 - 4. कुचिपुड़ी

Question ID : 264330115885

Status : Answered

Chosen Option : 2

Q.11 आपराधिक कानून संशोधन अधिनियम 2018, ने महिलाओं के बलात्कार के लिए न्यूनतम दंड को 7 से बढ़ाकर _____ वर्ष कर दिया है।

- Ans
- 1. 8
 - 2. 9
 - 3. 11
 - 4. 10

Question ID : 264330116231

Status : Answered

Chosen Option : 4

Q.12 In the expenditure method, GDP \equiv Sum total of all the final _____ received by the firms in the economy.

- Ans
- 1. sales
 - 2. revenue
 - 3. income
 - 4. expenditures

Question ID : 264330115342
Status : Answered
Chosen Option : 3

Q.13 'वन्दे मातरम्' गीत निम्नलिखित में से किस लेखक ने अपने एक उपन्यास में उद्धृत किया है?

- Ans
- 1. बंकिमचंद्र चट्टोपाध्याय
 - 2. वीर सिंह सलगांवकर
 - 3. मुरुगम पेरियार
 - 4. लाल माखन सिंह

Question ID : 26433091466
Status : Answered
Chosen Option : 1

Q.14 डिस्कस फेंकते समय खिलाड़ियों को कितने व्यास के वृत्त के अंदर रहना होता है?

- Ans
- 1. 2.5 मीटर
 - 2. 3 मीटर
 - 3. 3.5 मीटर
 - 4. 2 मीटर

Question ID : 264330115945
Status : Answered
Chosen Option : 2

Q.15 एक स्थलीय पारितंत्र में हरे पौधे अपनी पत्तियों पर पड़ने वाले सूर्य के प्रकाश की लगभग _____ ऊर्जा ग्रहण करते हैं और इसे खाद्य ऊर्जा में परिवर्तित करते हैं।

- Ans
- 1. 50%
 - 2. 10%
 - 3. 25%
 - 4. 1%

Question ID : 264330115261
Status : Answered
Chosen Option : 4

Q.16 निम्नलिखित में से कौन अक्टूबर 2022 में एक राजनीतिक दल, भारतीय राष्ट्रीय कांग्रेस के अध्यक्ष बने?

- Ans
- 1. शशि थरूर
 - 2. मल्लिकार्जुन खड़गे
 - 3. सुनील जाखड़
 - 4. सोनिया गांधी

Question ID : 264330114959

Status : Answered

Chosen Option : 2

Q.17 किसी कोश में भरे जा सकने वाले इलेक्ट्रॉनों की अधिकतम संख्या _____ द्वारा निरूपित की जाती है, जहाँ n कोशों की संख्या है।

- Ans
- 1. $2n^2$
 - 2. $2n^3$
 - 3. $3n^2$
 - 4. $3n^3$

Question ID : 264330115178

Status : Answered

Chosen Option : 1

Q.18 भारत के सबसे दक्षिणी सिरे का क्या नाम है?

- Ans
- 1. काराकोरम
 - 2. इंदिरा पॉइंट
 - 3. कैलीमेयर पॉइंट
 - 4. इंदिरा कोल

Question ID : 264330116013

Status : Answered

Chosen Option : 2

Q.19 राज्य में संवैधानिक आपातकाल लगाने की अनुशंसा करने की शक्ति किसके पास है?

- Ans
- 1. भारत के उपराष्ट्रपति
 - 2. उस राज्य के राज्यपाल
 - 3. भारत के प्रधानमंत्री
 - 4. भारत के गृह मंत्री

Question ID : 26433090678

Status : Answered

Chosen Option : 2

Q.20 This underemployment is hidden in contrast to someone who does not have a job and is clearly visible as unemployed. Hence, it is also called _____.

- Ans
- 1. Open employment
 - 2. Cyclic unemployment
 - 3. Frictional unemployment
 - 4. Disguised employment

Question ID : 264330116083

Status : Answered

Chosen Option : 2

Section : Part-C-Elementary Mathematics

Q.1 10 kg बेहतर किस्म वाले चावल में 5 kg घटिया किस्म का चावल मिला दिया जाता है। बेहतर किस्म और घटिया किस्म वाले चावल की कीमतें क्रमशः ₹85 और ₹46 हैं। मिश्रण का प्रति kg औसत मूल्य ज्ञात कीजिए।

- Ans
- 1. ₹73
 - 2. ₹74
 - 3. ₹75
 - 4. ₹72

Question ID : 26433076172

Status : Answered

Chosen Option : 4

Q.2 पूजा, नेहा और मनोज क्रमशः 16, 22 और 20 दिनों में एक कार्य कर सकते हैं। यदि नेहा और मनोज दोनों हर दूसरे दिन पूजा की सहायता करते हैं तो कार्य किस दिन समाप्त होगा?

- Ans
- 1. 7वें दिन
 - 2. 10वें दिन
 - 3. 9वें दिन
 - 4. 8वें दिन

Question ID : 264330116915

Status : Answered

Chosen Option : 2

Q.3 एक वीआईपी बैग पर 20% की छूट थी। अनुपम ने एक बैग खरीदा। उसे नगद भुगतान पर 8% की अतिरिक्त छूट मिली। यदि उसने ₹2,208 का भुगतान किया हो, तो बैग पर टैग मूल्य कितना अंकित था?

- Ans
- ✗ 1. ₹2,300
 - ✓ 2. ₹3,000
 - ✗ 3. ₹2,500
 - ✗ 4. ₹2,600

Question ID : 26433080174

Status : Answered

Chosen Option : 2

Q.4 यदि कोई धनराशि 3 वर्षों में $\frac{64}{27}$ गुना हो जाती है, तो प्रतिवर्ष चक्रवृद्धि ब्याज की दर क्या है?

- Ans
- ✓ 1. $33\frac{1}{3}$ प्रतिशत
 - ✗ 2. $21\frac{1}{3}$ प्रतिशत
 - ✗ 3. $16\frac{1}{3}$ प्रतिशत
 - ✗ 4. $25\frac{1}{4}$ प्रतिशत

Question ID : 26433079876

Status : Answered

Chosen Option : 1

Q.5 एक व्यक्ति ने अंकित मूल्य ₹500 वाली एक मेज को दो क्रमागत छूटों क्रमशः 8% और 25% पर क्रय किया। उसने परिवहन पर ₹32 खर्च किए और मेज को ₹500 में बेच दिया। उसे कितने रुपये का लाभ हुआ?

- Ans
- ✗ 1. ₹120
 - ✗ 2. ₹130
 - ✓ 3. ₹123
 - ✗ 4. ₹124

Question ID : 26433075348

Status : Answered

Chosen Option : 3

Q.6 यदि धातु के तीन ठोस गोले जिनकी त्रिज्याएँ 1 cm, 6 cm और 8 cm हैं, को पिघलाकर एक और ठोस गोला बनाया जाता है, तो नए गोले का पृष्ठीय क्षेत्रफल (cm^2 में) _____ है।

- Ans
- 1. 243π
 - 2. 364π
 - 3. 642π
 - 4. 324π

Question ID : 26433075896

Status : Answered

Chosen Option : 4

Q.7 P एक कार्य को 20 दिनों में कर सकता है और Q उसे 25 दिनों में कर सकता है। यदि वे इस पर एक साथ मिलकर 4 दिनों तक कार्य करते हैं, तो कार्य का कितना प्रतिशत शेष बचेगा?

- Ans
- 1. 68%
 - 2. 52%
 - 3. 36%
 - 4. 64%

Question ID : 26433075955

Status : Answered

Chosen Option : 4

Q.8 वह सबसे बड़ी संख्या कौन-सी है, जो 187, 233 और 279 को विभाजित करके प्रत्येक स्थिति में समान शेषफल प्रदान करेगी?

- Ans
- 1. 46
 - 2. 36
 - 3. 30
 - 4. 56

Question ID : 26433082341

Status : Answered

Chosen Option : 1

Q.9 257.5 मीटर और 272.5 मीटर लंबाई की दो ट्रेनें विपरीत दिशाओं में यात्रा करते हुए 15.9 सेकंड में एक दूसरे को पार करती हैं। उनकी अनुमानित संयुक्त चाल प्रति घंटा क्या है?

- Ans
- 1. 120 किमी/घंटा
 - 2. 150 किमी/घंटा
 - 3. 145 किमी/घंटा
 - 4. 136 किमी/घंटा

Question ID : 26433075922

Status : Answered

Chosen Option : 1

Q.10 एक मोटरबाइक के मूल्य में प्रतिवर्ष 10% का हास होता है। यदि मोटरबाइक का वर्तमान मूल्य Rs.1,00,000 है, तो 36 महीने बाद इसका मूल्य (Rs. में) क्या होगा?

- Ans
- 1. 70900
 - 2. 72900
 - 3. 71900
 - 4. 73900

Question ID : 26433071358

Status : Answered

Chosen Option : 2

Q.11 अमीषा 2 km/h की चाल से 3 km चलती है, 4 km/h की चाल से 7 km दौड़ती है और बस द्वारा 32 km जाती है। यदि बस की चाल 28 km/h है, तो पूरी यात्रा में अमीषा की औसत चाल ज्ञात कीजिए।

- Ans
- 1. $\frac{394}{41}$ km/h
 - 2. $\frac{392}{41}$ km/h
 - 3. $\frac{391}{41}$ km/h
 - 4. $\frac{393}{41}$ km/h

Question ID : 26433092158

Status : Answered

Chosen Option : 2

Q.12 एक सरकारी कर्मि अपनी आय का 76% खर्च कर देता है। यदि उसकी आय में 14% की वृद्धि हो और उसके खर्च में 10% की वृद्धि हो, तो उसकी बचत का वृद्धि-प्रतिशत (दशमलव के 2 स्थान तक शुद्ध) ज्ञात कीजिए।

- Ans
- 1. 26.67%
 - 2. 27.66%
 - 3. 28.33%
 - 4. 24.33%

Question ID : 26433080156

Status : Answered

Chosen Option : 1

Q.13 राखी ने सुजाता को 10% के लाभ पर एक टीवी बेचा। उर्मिला ने वह टीवी, राखी को 20% के लाभ पर बेचा था। यदि उर्मिला का क्रय मूल्य Rs. 50,000 था, तो सुजाता ने टीवी को कितने में खरीदा?

- Ans
- 1. Rs.66,000
 - 2. Rs.72,000
 - 3. Rs.78,000
 - 4. Rs.65,000

Question ID : 26433075058

Status : Answered

Chosen Option : 1

Q.14 If y varies directly with x , and $y = 16$ when $x = 24$, then find the value of y when $x = 45$.

Ans 1. 30

2. 45

3. 40

4. 24

Question ID : 26433074994

Status : Answered

Chosen Option : 1

Q.15 एक घनाभ की भुजाएँ 3 : 4 : 5 के अनुपात में हैं और इसका आयतन 480 घन इकाई है। सबसे बड़ी और सबसे छोटी भुजा के बीच का अंतर _____ इकाई है।

Ans 1. 6

2. 3

3. 5

4. 4

Question ID : 26433071270

Status : Answered

Chosen Option : 4

Q.16 एक निश्चित राशि 6% वार्षिक चक्रवृद्धि ब्याज की दर से 2 वर्षों में Rs.7,200 हो जाती है, जिस पर ब्याज वार्षिक रूप से चक्रवृद्धि किया जाता है। वह राशि (Rs. में, निकटतम पूर्णांक तक) ज्ञात कीजिए।

Ans 1. Rs.6,449

2. Rs.6,400

3. Rs.6,408

4. Rs.6,507

Question ID : 26433076041

Status : Answered

Chosen Option : 3

Q.17 एक विक्रेता ने किसी वस्तु का विक्रय मूल्य, इसके क्रय मूल्य से 25% अधिक अंकित किया। यदि वह 42% की छूट देता है, तो उसका हानि-प्रतिशत ज्ञात कीजिए।

Ans 1. 33.5%

2. 8.5%

3. 30%

4. 27.5%

Question ID : 26433074927

Status : Answered

Chosen Option : 4

Q.18 एक रेलगाड़ी 80 km/h की एकसमान चाल से चल रही है। 30 मिनट में रेलगाड़ी द्वारा कितनी दूरी तय की जाती है?

- Ans 1. 40 km
 2. 50 km
 3. 60 km
 4. 70 km

Question ID : 26433074951
Status : Answered
Chosen Option : 1

Q.19 यदि $36 \div 2 + y \times 3 - 22 = 8$ है, तो y का मान ज्ञात कीजिए।

- Ans 1. 2
 2. 1
 3. 4
 4. 8

Question ID : 26433079763
Status : Answered
Chosen Option : 3

Q.20 एक ट्रेन की लंबाई 150 मीटर है। यह ट्रेन समान दिशा में 2 km/h की चाल से चल रहे एक व्यक्ति को 3 सेकंड में पार कर जाती है। ट्रेन की चाल ज्ञात करें।

- Ans 1. 182 km/h
 2. 168 km/h
 3. 191 km/h
 4. 176 km/h

Question ID : 26433075853
Status : Answered
Chosen Option : 1

Section : Part-D-English

Q.1 Select the most appropriate option that can substitute the underlined segment in the given sentence.

Heather studied really hard during six days in order to crack the entrance examination.

- Ans 1. studied real hard during six days
 2. studied really hard underneath six days
 3. studied really hard during that six days
 4. studied really hard during those six days

Question ID : 26433091774
Status : Not Answered
Chosen Option : --

Q.2 Select the most appropriate option to fill in the blank.

David always takes extra effort and _____ the assignments on time.

- Ans
- 1. submits
 - 2. submit
 - 3. may submit
 - 4. submitted

Question ID : 26433089300
Status : Not Answered
Chosen Option : --

Q.3 Select the most appropriate synonym of the underlined word in the given sentence.

The decision taken by the director is a/(an) judicious one.

- Ans
- 1. honest
 - 2. irrational
 - 3. thoughtful
 - 4. foolish

Question ID : 26433092108
Status : Not Answered
Chosen Option : --

Q.4 Select the most appropriate option to fill in the blanks in the given sentence.

My teacher said, "Time _____ like an arrow, and fruit _____ like bananas".

- Ans
- 1. travels
 - 2. glides
 - 3. flies
 - 4. wings

Question ID : 26433084770
Status : Not Answered
Chosen Option : --

Q.5 Select the most appropriate synonym of the underlined word.

He paused several times while delivering the speech.

- Ans
- 1. persisted
 - 2. halted
 - 3. stammered
 - 4. left

Question ID : 26433088492
Status : Not Answered
Chosen Option : --

Q.6 Select the most appropriate option to fill in the blank.

Competition and cooperation are the most _____ elements of a company's success story.

- Ans
- 1. inappropriate
 - 2. insignificant
 - 3. important
 - 4. useless

Question ID : 26433073787

Status : Not Answered

Chosen Option : --

Q.7 The sentence given below has one misspelt word. Spot the INCORRECTLY spelt word and select its correct spelling.

Clouds are a kaleidoscope of shapes, sizes, patterns and colours.

- Ans
- 1. Kaleidascope
 - 2. Caliedoscope
 - 3. Caledoscope
 - 4. Kaleidoscope

Question ID : 26433073546

Status : Not Answered

Chosen Option : --

Q.8 Select the most appropriate option that can substitute the underlined segment in the given sentence.

In spite of all her air and graces, she had very few talents

- Ans
- 1. airing her grace
 - 2. airs and grace
 - 3. airing her graces
 - 4. airs and graces

Question ID : 26433071934

Status : Not Answered

Chosen Option : --

Q.9 Select the most appropriate synonym of the given word to fill in the blank in the sentence.

Propel

Paddles are used to _____ the boat.

- Ans
- 1. run
 - 2. rush
 - 3. carry
 - 4. move

Question ID : 26433060554

Status : Not Answered

Chosen Option : --

Q.10 Select the most appropriate option that can substitute the underlined segment in the given sentence. If there is no need to substitute it, select 'No substitution'.

When he hand in his homework, he forgot to give the teacher the last page.

- Ans
- 1. When he has handed in his homework,
 - 2. No substitution
 - 3. When he handed his homework,
 - 4. When he handed in his homework,

Question ID : 264330101024
Status : Not Answered
Chosen Option : --

Q.11 Select the most appropriate synonym of the given word.

Grandeur

- Ans
- 1. Magnificence
 - 2. Power
 - 3. Liable
 - 4. Commotion

Question ID : 26433087916
Status : Not Answered
Chosen Option : --

Q.12 Select the most appropriate option to substitute the underlined segment in the given sentence.

Water pollution not only endangers human health but also our environment.

- Ans
- 1. only causes
 - 2. only shatters
 - 3. only clashes
 - 4. only harms

Question ID : 26433089829
Status : Not Answered
Chosen Option : --

Q.13 Select the appropriate idiom that can replace the underlined phrase in the following sentence.

It was a great chance. You missed out an opportunity.

- Ans
- 1. are a blessing in disguise
 - 2. are dead as a dodo
 - 3. missed the boat
 - 4. are in the middle of nowhere

Question ID : 26433072363
Status : Not Answered
Chosen Option : --

Q.14 Select the most appropriate ANTONYM of the given word.

Prompt

- Ans 1. Attentive
 2. Initiate
 3. Delayed
 4. Efficient

Question ID : 26433090795

Status : Not Answered

Chosen Option : --

Q.15 Select the most appropriate ANTONYM of the given word.

Relevant

- Ans 1. Applicable
 2. Ignorant
 3. Compact
 4. Insignificant

Question ID : 26433090785

Status : Not Answered

Chosen Option : --

Comprehension:

In the following passage, some words have been deleted. Read the passage carefully and select the most appropriate option to fill in each blank.

Outside, the world had become a formless, (1)_____ with no shape, while the house itself seemed to have twisted and stretched. There was sticky web-stuff (2)_____ to her arm, and she wiped it off as best as she could. The other mother was waiting for her, standing on the grass with her arms (3)_____. Her black button eyes were expressionless, but her lips were pressed tightly in a cold (4)_____. When she saw Myna she reached (5)_____ one long white hand, and she crooked a finger.

SubQuestion No : 16

Q.16 Select the most appropriate option to fill in blank number 1.

- Ans 1. ambiguous
 2. ambivalent
 3. advent
 4. amorphous

Question ID : 26433091407

Status : Not Answered

Chosen Option : --

Comprehension:

In the following passage, some words have been deleted. Read the passage carefully and select the most appropriate option to fill in each blank.

Outside, the world had become a formless, (1)_____ with no shape, while the house itself seemed to have twisted and stretched. There was sticky web-stuff (2)_____ to her arm, and she wiped it off as best as she could. The other mother was waiting for her, standing on the grass with her arms (3)_____. Her black button eyes were expressionless, but her lips were pressed tightly in a cold (4)_____. When she saw Myna she reached (5)_____ one long white hand, and she crooked a finger.

SubQuestion No : 17

Q.17 Select the most appropriate option to fill in blank number 2.

- Ans 1. dried
 2. clung
 3. unmoor
 4. manumit

Question ID : 26433091408

Status : Not Answered

Chosen Option : --

Comprehension:

In the following passage, some words have been deleted. Read the passage carefully and select the most appropriate option to fill in each blank.

Outside, the world had become a formless, (1)_____ with no shape, while the house itself seemed to have twisted and stretched. There was sticky web-stuff (2)_____ to her arm, and she wiped it off as best as she could. The other mother was waiting for her, standing on the grass with her arms (3)_____. Her black button eyes were expressionless, but her lips were pressed tightly in a cold (4)_____. When she saw Myna she reached (5)_____ one long white hand, and she crooked a finger.

SubQuestion No : 18

Q.18 Select the most appropriate option to fill in blank number 3.

- Ans 1. entangled
 2. folded
 3. joined
 4. entwined

Question ID : 26433091409

Status : Not Answered

Chosen Option : --

Comprehension:

In the following passage, some words have been deleted. Read the passage carefully and select the most appropriate option to fill in each blank.

Outside, the world had become a formless, (1)_____ with no shape, while the house itself seemed to have twisted and stretched. There was sticky web-stuff (2)_____ to her arm, and she wiped it off as best as she could. The other mother was waiting for her, standing on the grass with her arms (3)_____. Her black button eyes were expressionless, but her lips were pressed tightly in a cold (4)_____. When she saw Myna she reached (5)_____ one long white hand, and she crooked a finger.

SubQuestion No : 19

Q.19 Select the most appropriate option to fill in blank number 4.

- Ans 1. calmness
 2. fury
 3. quietude
 4. serenity

Question ID : 26433091410

Status : Not Answered

Chosen Option : --

Comprehension:

In the following passage, some words have been deleted. Read the passage carefully and select the most appropriate option to fill in each blank.

Outside, the world had become a formless, (1)_____ with no shape, while the house itself seemed to have twisted and stretched. There was sticky web-stuff (2)_____ to her arm, and she wiped it off as best as she could. The other mother was waiting for her, standing on the grass with her arms (3)_____. Her black button eyes were expressionless, but her lips were pressed tightly in a cold (4)_____. When she saw Myna she reached (5)_____ one long white hand, and she crooked a finger.

SubQuestion No : 20

Q.20 Select the most appropriate option to fill in blank number 5.

- Ans 1. of
 2. out
 3. by
 4. in

Question ID : 26433091411

Status : Not Answered

Chosen Option : --

Section : Part-D-Hindi

Q.1 मेरे सिवाय अनेक को एकाआध पुरस्कार अवश्य मिला।
उपरोक्त वाक्य में रेखांकित शब्द के स्थान पर आने वाले सर्वोचित विकल्प का चयन कीजिए।

- Ans 1. प्रत्येक
 2. किन्ही
 3. सबको
 4. कुछ

Question ID : 26433084956

Status : Answered

Chosen Option : 1

Q.2 'कक्ष से बाहर _____ नियमों का पालन करें।' वाक्य में रिक्त स्थान की पूर्ति शुद्ध शब्द द्वारा कीजिए।

- Ans
- 1. उलेखित
 - 2. उल्लिखित
 - 3. उल्लेकित
 - 4. उल्लेखित

Question ID : 26433069701
Status : Answered
Chosen Option : 4

Q.3 'इन्द्र' का पर्यायवाची शब्द इनमें से क्या होगा?

- Ans
- 1. शक्र
 - 2. पंचबाण
 - 3. पिनाकी
 - 4. मनोज

Question ID : 26433066904
Status : Answered
Chosen Option : 3

Q.4 विकल्पों में दिए गए किस वाक्य में निम्न शब्द के पर्यायवाची का प्रयोग किया गया है?
गणेश

- Ans
- 1. हमें गजानन की पूजा करनी चाहिए।
 - 2. हम पुरंदर की पूजा करते हैं।
 - 3. हमें पीताम्बर की अर्चना करनी चाहिए।
 - 4. हमें शशिशेखर की अर्चना करनी चाहिए।

Question ID : 26433066932
Status : Answered
Chosen Option : 1

Q.5 निम्नलिखित में से शुद्ध वाक्य कौन-सा है?

- Ans
- 1. बाजार में झुंडों के झुण्ड जानवर खड़े थे।
 - 2. सब तरह के वर्ग के लोग सभा में उपस्थित थे।
 - 3. यह बात कहने में अनन्या को संकोच न होगा।
 - 4. इस बात को कहने में अनन्या को संकोच न होगा।

Question ID : 26433066997
Status : Answered
Chosen Option : 4

Q.6 निम्नलिखित मुहावरे में गलत शब्द है-
आकाश-पत्तल एक कर देना

- Ans
- 1. पत्तल
 - 2. एक
 - 3. देना
 - 4. आकाश

Question ID : 26433062812
Status : Answered
Chosen Option : 1

Q.7 विकल्पों में से कौन सा शब्द निम्न वाक्य में रेखांकित अंश के स्थान पर आ सकता है?
इस समय उनकी आयु 70 वर्ष है।

- Ans
- 1. जीवन
 - 2. उम्र
 - 3. स्थिति
 - 4. जन्मतिथि

Question ID : 26433066877
Status : Answered
Chosen Option : 2

Q.8 निम्नलिखित वाक्यांश के लिए एक सार्थक शब्द चुनिए।
जो बाएँ और दाएँ दोनों हाथों से तीर चला ले

- Ans
- 1. मुक्तहस्त
 - 2. सहोदर
 - 3. सव्यसाची
 - 4. शाक्त

Question ID : 26433062733
Status : Answered
Chosen Option : 1

Q.9 निम्न वाक्य में रेखांकित शब्द के स्थान पर सर्वोचित शब्द का चयन कीजिए।
चंद्रगुप्त ऐतिहासिक मरुभूमि पर लिखा गया नाटक है।

- Ans
- 1. भाषा
 - 2. पृष्ठभूमि
 - 3. शैली
 - 4. रूपांतरण

Question ID : 26433065699
Status : Answered
Chosen Option : 2

Q.10 निम्न वाक्यांश के लिए उपयुक्त एक शब्द क्या होगा?
जिसके पाणि में चक्र है

- Ans 1. चक्रपाणि
 2. चक्रधर
 3. चतुर्दिक
 4. चक्राकार

Question ID : 26433070084
Status : Answered
Chosen Option : 1

Q.11 'विरंचि' के लिए समानार्थी शब्द चुनकर निम्न वाक्य पूर्ण कीजिए।
राक्षस को _____ से वरदान मिला।

- Ans 1. शंकर
 2. ब्रह्मा
 3. गणेश
 4. विष्णु

Question ID : 26433063099
Status : Answered
Chosen Option : 1

Q.12 निम्नलिखित वाक्य के रिक्त स्थान की पूर्ति उचित संज्ञा शब्द से करें।
डॉक्टर _____ का परीक्षण करता है।

- Ans 1. रोगी
 2. नीरस
 3. अपने-आप
 4. कुछ

Question ID : 26433085021
Status : Answered
Chosen Option : 1

Q.13 दिए गए मुहावरे में रेखांकित अंश के स्थान पर सबसे उपयुक्त विकल्प कौन-सा होगा?
सिर पर आदमी सवार होना।

- Ans 1. भूत
 2. भगवान
 3. इंसान
 4. जानवर

Question ID : 26433066745
Status : Answered
Chosen Option : 1

Q.14 निम्नलिखित में से कौन-सा वाक्य संज्ञा के प्रयोग की दृष्टि से शुद्ध है?

- Ans
- 1. विश्वजीत को सफल होने की हताशा है।
 - 2. विश्वजीत को सफल होने की जिजीविषा नहीं है।
 - 3. विश्वजीत को सफल होने की निराशा नहीं है।
 - 4. विश्वजीत को सफल होने की उम्मीद नहीं है।

Question ID : 26433066959

Status : Answered

Chosen Option : 4

Q.15 दानव का स्वरूप कुरूप है और ईश्वर का _____।
उपरोक्त वाक्य में रिक्त स्थान की पूर्ति 'कुरूप' के विलोम शब्द से करें।

- Ans
- 1. भौंडा
 - 2. रूप
 - 3. सुंदर
 - 4. स्वरूप

Question ID : 26433080878

Status : Answered

Chosen Option : 3

Comprehension:

निम्नलिखित गद्यांश में से कुछ शब्द हटा दिए गए हैं। दिए गए विकल्पों की सहायता से रिक्त स्थानों की पूर्ति कीजिए। प्रत्येक संख्या के लिए उपयुक्त विकल्प का चयन कीजिए।
सर्दियों में लूसी ने दो बच्चों 1. _____ जन्म दिया, किंतु उनमें से 2. _____ तो शीत के कारण मर गया और दूसरा उस ठिठुराने वाले परिवेश से जूझने लगा। चार-3. _____ दिन के 4. _____ को छोड़कर लूसी फिर दुकान 5. _____ आने-जाने लगी थी।

SubQuestion No : 16

Q.16 रिक्त स्थान 1 की पूर्ति के लिए सर्वाधिक उपयुक्त विकल्प का चयन कीजिए।

- Ans
- 1. को
 - 2. का
 - 3. की
 - 4. के

Question ID : 26433079686

Status : Answered

Chosen Option : 1

Comprehension:

निम्नलिखित गद्यांश में से कुछ शब्द हटा दिए गए हैं। दिए गए विकल्पों की सहायता से रिक्त स्थानों की पूर्ति कीजिए। प्रत्येक संख्या के लिए उपयुक्त विकल्प का चयन कीजिए।
सर्दियों में लूसी ने दो बच्चों 1. _____ जन्म दिया, किंतु उनमें से 2. _____ तो शीत के कारण मर गया और दूसरा उस ठिठुराने वाले परिवेश से जूझने लगा। चार-3. _____ दिन के 4. _____ को छोड़कर लूसी फिर दुकान 5. _____ आने-जाने लगी थी।

SubQuestion No : 17

Q.17 रिक्त स्थान 2 की पूर्ति के लिए सर्वाधिक उपयुक्त विकल्प का चयन कीजिए।

- Ans
- 1. कुछ
 - 2. एक
 - 3. कोई
 - 4. अनेक

Question ID : 26433079687

Status : Answered

Chosen Option : 2

Comprehension:

निम्नलिखित गद्यांश में से कुछ शब्द हटा दिए गए हैं। दिए गए विकल्पों की सहायता से रिक्त स्थानों की पूर्ति कीजिए। प्रत्येक संख्या के लिए उपयुक्त विकल्प का चयन कीजिए।
सर्दियों में लूसी ने दो बच्चों 1. _____ जन्म दिया, किंतु उनमें से 2. _____ तो शीत के कारण मर गया और दूसरा उस ठिठुराने वाले परिवेश से जूझने लगा। चार-3. _____ दिन के 4. _____ को छोड़कर लूसी फिर दुकान 5. _____ आने-जाने लगी थी।

SubQuestion No : 18

Q.18 रिक्त स्थान 3 की पूर्ति के लिए सर्वाधिक उपयुक्त विकल्प का चयन कीजिए।

- Ans
- 1. तीन
 - 2. छह
 - 3. सात
 - 4. पाँच

Question ID : 26433079688

Status : Answered

Chosen Option : 4

Comprehension:

निम्नलिखित गद्यांश में से कुछ शब्द हटा दिए गए हैं। दिए गए विकल्पों की सहायता से रिक्त स्थानों की पूर्ति कीजिए। प्रत्येक संख्या के लिए उपयुक्त विकल्प का चयन कीजिए।
सर्दियों में लूसी ने दो बच्चों 1. _____ जन्म दिया, किंतु उनमें से 2. _____ तो शीत के कारण मर गया और दूसरा उस ठिठुराने वाले परिवेश से जूझने लगा। चार-3. _____ दिन के 4. _____ को छोड़कर लूसी फिर दुकान 5. _____ आने-जाने लगी थी।

SubQuestion No : 19

Q.19 रिक्त स्थान 4 की पूर्ति के लिए सर्वाधिक उपयुक्त विकल्प का चयन कीजिए।

- Ans
- 1. दोस्त
 - 2. चूजे
 - 3. बच्चे
 - 4. आदमी

Question ID : 26433079689

Status : Answered

Chosen Option : 3

Comprehension:

निम्नलिखित गद्यांश में से कुछ शब्द हटा दिए गए हैं। दिए गए विकल्पों की सहायता से रिक्त स्थानों की पूर्ति कीजिए। प्रत्येक संख्या के लिए उपयुक्त विकल्प का चयन कीजिए।
सर्दियों में लूसी ने दो बच्चों 1. _____ जन्म दिया, किंतु उनमें से 2. _____ तो शीत के कारण मर गया और दूसरा उस ठिठुराने वाले परिवेश से जूझने लगा। चार-3. _____ दिन के 4. _____ को छोड़कर लूसी फिर दुकान 5. _____ आने-जाने लगी थी।

SubQuestion No : 20

Q.20 रिक्त स्थान 5 की पूर्ति के लिए सर्वाधिक उपयुक्त विकल्प का चयन कीजिए।

- Ans
- 1. के सामने
 - 2. भर
 - 3. सब
 - 4. तक

Question ID : 26433079690

Status : Answered

Chosen Option : 1

KD Job Updates

Constable GD in CAPFs SSF Rifleman GD in Assam Rifles and Sepoy in NCB Examination 2022

Roll Number	KD Job Updates
Candidate Name	KD Job Updates
Venue Name	Yagyavalkya Institute of Technology
Exam Date	08/02/2023
Exam Time	11:45 AM - 12:45 PM
Subject	Constable GD Examination 2022

Section : Part-A-General Intelligence and Reasoning

Q.1 A, B, C, D, और E पांच विद्यार्थी एक वृत्ताकार मेज के परितः मेज के केंद्र की ओर मुख करके बैठे हुए हैं। D, A के दाईं ओर ठीक बगल में बैठा है। C, D या A के ठीक बगल में नहीं बैठा है। E, C के दाईं ओर ठीक बगल में बैठा है। D के दाईं ओर ठीक बगल में कौन बैठा है?

- Ans
- 1. A
 - 2. B
 - 3. E
 - 4. C

Question ID : 264330114203

Status : Answered

Chosen Option : 2

Q.2 निम्न श्रृंखला में प्रश्न-चिह्न (?) के स्थान पर कौन सी संख्या आएगी?
42, 56, 72, ?, 110, 132

- Ans
- 1. 90
 - 2. 80
 - 3. 92
 - 4. 84

Question ID : 26433067835

Status : Answered

Chosen Option : 1

Q.3 कौन-सा अक्षर-समूह दी गई श्रृंखला में प्रश्नचिह्न (?) के स्थान पर आकर श्रृंखला को पूर्ण करेगा?
CVRK, FYUN, ?, LEAT, OHDW

- Ans
- 1. JBXQ
 - 2. ICXQ
 - 3. IBXQ
 - 4. JCXQ

Question ID : 26433067942

Status : Answered

Chosen Option : 3

Q.4 'A + B' का अर्थ है 'B, A का पिता है'
'A - B' का अर्थ है 'B, A की माता है'
'A \$ B' का अर्थ है 'B, A का पति है'
यदि $A + B - C \leq D$ है, तो D, A से किस प्रकार संबंधित है?

- Ans 1. दादा
 2. पुत्र
 3. चाचा/ताऊ
 4. पिता

Question ID : 26433068526
Status : Answered
Chosen Option : 1

Q.5 उस विकल्प का चयन करें, जो पाँचवीं संख्या से उसी प्रकार संबंधित है, जिस प्रकार दूसरी संख्या, पहली संख्या से संबंधित है और चौथी संख्या, तीसरी संख्या से संबंधित है।
 $64 : 5 :: 49 : 4 :: 81 : ?$

- Ans 1. 3
 2. 6
 3. 8
 4. 9

Question ID : 26433069410
Status : Answered
Chosen Option : 2

Q.6 एक निश्चित कूट भाषा में 'BEAUTY' को 'DDZTVA' लिखा जाता है और 'GLORIA' को 'INNTHZ' लिखा जाता है। उसी भाषा में 'CLEAVE' को किस प्रकार लिखा जाएगा?

- Ans 1. ENG CXG
 2. ENG ZXD
 3. END ZXD
 4. EKG ZWD

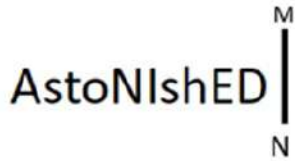
Question ID : 26433081761
Status : Answered
Chosen Option : 4

Q.7 उस विकल्प का चयन कीजिए जो तीसरे शब्द से उसी प्रकार संबंधित है जिस प्रकार दूसरा शब्द पहले शब्द से संबंधित है। (शब्दों को अर्थपूर्ण शब्दों के रूप में मानना है और उन्हें शब्द में अक्षरों/व्यंजनों/स्वरों की संख्या के आधार पर एक-दूसरे से संबंधित नहीं करना है।)
छात्र : कक्षा :: देश : ?

- Ans 1. क्षेत्र
 2. महाद्वीप
 3. परिषद
 4. राष्ट्र

Question ID : 26433069575
Status : Answered
Chosen Option : 2

Q.8 दी गई आकृति के सही दर्पण प्रतिबिम्ब का चयन करें जब दर्पण को MN पर रखा जाए जैसा कि नीचे दर्शाया गया है।



Ans

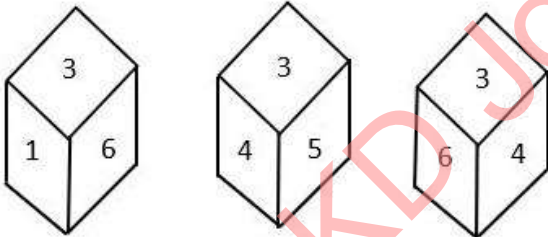
- ✓ 1. Astonished
- ✗ 2. astonished
- ✗ 3. astonished
- ✗ 4. astonished

Question ID : 26433085554

Status : Answered

Chosen Option : 1

Q.9 एक ही पासे की तीन अलग-अलग स्थितियों को दर्शाया गया है। '3' दर्शाने वाले फलक के विपरीत फलक की संख्या ज्ञात कीजिए।



- Ans
- ✗ 1. 4
 - ✓ 2. 2
 - ✗ 3. 6
 - ✗ 4. 5

Question ID : 26433090071

Status : Answered

Chosen Option : 2

Q.10 यदि '+' का अर्थ है 'x', '-' का अर्थ है '÷', 'x' का अर्थ है '+' और '÷' का अर्थ है '-', तो निम्नलिखित में से कौन सा समीकरण सही होगा?

- Ans
- 1. $24 \times 4 + 4 \div 64 - 16 = 60$
 - 2. $32 - 4 \div 8 \times 64 \div 16 = 36$
 - 3. $48 - 8 + 4 \times 64 \div 16 = 72$
 - 4. $32 \div 8 \times 4 + 64 - 16 = 48$

Question ID : 264330117486

Status : Answered

Chosen Option : 4

Q.11 सात व्यक्ति J, K, L, M, N, O और P एक सीधी पंक्ति में उत्तर की ओर मुख करके बैठे हैं। J, N के बाईं ओर चौथे स्थान पर बैठा है। O, J के दाईं ओर तीसरे स्थान पर बैठा है। M, O के बाईं ओर चौथे स्थान पर बैठा है। P और L के बीच केवल तीन व्यक्ति बैठे हैं। L के बाईं ओर कोई नहीं बैठा है। पंक्ति के दाएं सिरे से दूसरे स्थान पर कौन बैठा है?

- Ans
- 1. N
 - 2. P
 - 3. O
 - 4. M

Question ID : 26433068283

Status : Answered

Chosen Option : 3

Q.12 किस विकल्प में निम्नलिखित शब्दों का वह क्रम दिया गया है, जिस क्रम में वे अंग्रेजी शब्दकोश में आते हैं?

- 1 fragile
- 2 frame
- 3 friction
- 4 fragment
- 5 fragrance

- Ans
- 1. 1,4,5,2,3
 - 2. 1,4,5,3,2
 - 3. 1,5,4,2,3
 - 4. 1,5,4,3,2

Question ID : 26433069301

Status : Answered

Chosen Option : 1

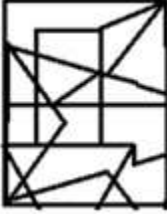
Q.13 उस विकल्प आकृति का चयन करें जिसमें दी गई आकृति निहित है

(आकृति को घुमाने की अनुमति नहीं है)।

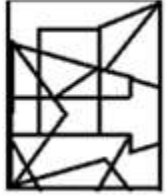


Ans

✗ 1.



✓ 2.



✗ 3.



✗ 4.



Question ID : 26433069251

Status : Answered

Chosen Option : 2

Q.14 दिए गए समीकरण में * चिह्नों को क्रमिक रूप से बदलने और समीकरण को संतुलित करने के लिए गणितीय चिह्नों के सही संयोजन का चयन कीजिए।

$$6 * 14 * 2 * 1 * 11 * 52$$

Ans ✗ 1. x, +, -, x, =

✓ 2. x, ÷, -, +, =

✗ 3. x, +, -, -, =

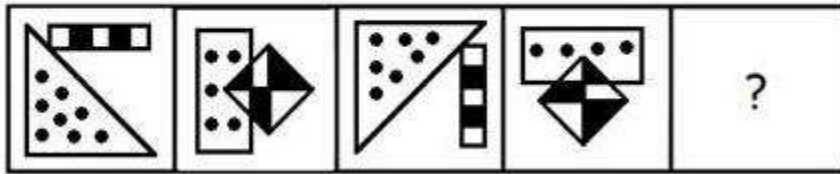
✗ 4. x, -, ÷, +, =

Question ID : 26433082882

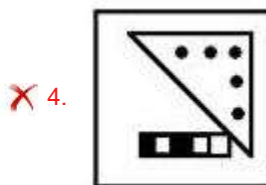
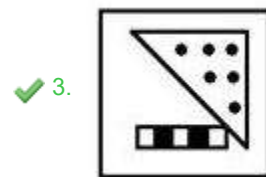
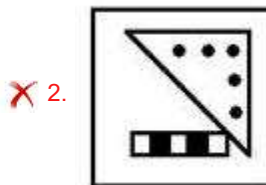
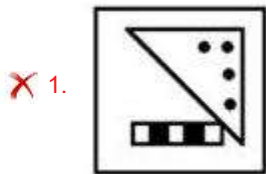
Status : Answered

Chosen Option : 2

Q.15 उस आकृति का चयन कीजिए, जो नीचे दी गई श्रृंखला में आगे आएगी।



Ans



Question ID : 26433078970

Status : Not Attempted and Marked For Review

Chosen Option : --

Q.16 एक कूट भाषा में, 'he is late' को 'ah hu lu', 'she is expected' को 'bo hu ma', और 'she arrived late' को 'bo ka lu' के रूप में कूटबद्ध किया जाता है। शब्द 'arrived' के लिए कूट क्या होगा?

Ans ✗ 1. bo

✓ 2. ka

✗ 3. hu

✗ 4. lu

Question ID : 26433069470

Status : Answered

Chosen Option : 2

Q.17 उस विकल्प का चयन कीजिए जो तीसरे शब्द से उसी प्रकार संबंधित है जिस प्रकार दूसरा शब्द पहले शब्द से संबंधित है। (शब्दों को अर्थपूर्ण शब्दों के रूप में मानना है और उन्हें शब्द में अक्षरों/व्यंजनों/स्वरों की संख्या के आधार पर एक-दूसरे से संबंधित नहीं करना है।)
शुतुरमुर्ग : पक्षी :: मेंढक : ?

- Ans
- 1. सरीसृप
 - 2. स्तनधारी
 - 3. कृतक
 - 4. उभयचर

Question ID : 26433067363

Status : Answered

Chosen Option : 4

Q.18 निम्न में से कौन सी संख्या दी गई श्रृंखला में प्रश्नचिह्न (?) के स्थान पर आएगी?
1, 2, 3, 5, 8, ?, 21, 34

- Ans
- 1. 13
 - 2. 16
 - 3. 17
 - 4. 11

Question ID : 26433076752

Status : Answered

Chosen Option : 1

Q.19 कौन-सा अक्षर-समूह दी गई श्रृंखला में प्रश्नचिह्न (?) के स्थान पर आकर श्रृंखला को पूर्ण करेगा?
WDGP, TBDN, QZAL, ?, KVVH

- Ans
- 1. NXXJ
 - 2. OXYI
 - 3. MWXK
 - 4. MXYJ

Question ID : 26433068033

Status : Answered

Chosen Option : 1

Q.20 तीन कथन दिए गए हैं, जिसके बाद तीन निष्कर्ष I, II और III दिए गए हैं। कथनों को सत्य मानते हुए, भले ही वे सामान्य रूप से ज्ञात तथ्यों से भिन्न प्रतीत होते हों, निर्णय लीजिए कि कौन-से निष्कर्ष कथनों का तार्किक रूप से अनुसरण करते हैं।

कथन:

कुछ कुर्सियाँ बेड हैं।

कुछ मेज डेस्क हैं।

सभी बेड मेज हैं।

निष्कर्ष:

I. कुछ कुर्सियाँ मेज हैं।

II. कुछ डेस्क बेड हैं।

III. कुछ डेस्क कुर्सियाँ हैं।

- Ans
- 1. केवल निष्कर्ष II अनुसरण करता है।
 - 2. केवल निष्कर्ष III अनुसरण करता है।
 - 3. केवल निष्कर्ष I अनुसरण करता है।
 - 4. सभी निष्कर्ष अनुसरण करते हैं।

Question ID : 26433085680

Status : Answered

Chosen Option : 3

Section : Part-B-General Knowledge and General awareness

Q.1 _____ सिलिकॉन डाइऑक्साइड का सामान्य नाम है।

- Ans
- 1. आशमीत चूना
 - 2. सफेद विट्रिओल
 - 3. कार्टज
 - 4. प्लास्टर ऑफ पेरिस

Question ID : 264330115167

Status : Answered

Chosen Option : 3

Q.2 नवंबर 2022 तक की स्थिति के अनुसार, निम्नलिखित में से कौन केरल, भारत के मुख्यमंत्री हैं?

- Ans
- 1. आनंदीबेन पटेल
 - 2. बसवराज बोम्मई
 - 3. पिनाराई विजयन
 - 4. नवीन पटनायक

Question ID : 264330114932

Status : Answered

Chosen Option : 3

Q.3 विश्व में हरित क्रांति का जनक किसे कहा जाता है?

- Ans
- 1. आर.के.वी. राव
 - 2. एमएस स्वामीनाथन
 - 3. नॉर्मन बोरलॉग
 - 4. राजा कृष्ण

Question ID : 264330116150

Status : Answered

Chosen Option : 3

Q.4 सहायक गठबंधन प्रणाली, जिसके तहत किसी भारतीय शासक को अपने खुद के सशस्त्र बलों को भंग करना पड़ता था और अपने क्षेत्र में ब्रिटिश सेना और निवासियों को स्वीकार करना पड़ता था, निम्नलिखित में से किसने शुरू की थी?

- Ans
- 1. लॉर्ड हेस्टिंग्स
 - 2. लॉर्ड मिंटो
 - 3. लॉर्ड वैलेस्ली
 - 4. लॉर्ड विलियम बेंटिक

Question ID : 26433099164
Status : Answered
Chosen Option : 3

Q.5 छठ पूजा, एक प्राचीन हिंदू पर्व है, यह निम्नलिखित में से किस महीने में आ सकती है?

- Ans
- 1. मई
 - 2. मार्च
 - 3. अगस्त
 - 4. नवंबर

Question ID : 264330115108
Status : Answered
Chosen Option : 4

Q.6 _____ को गोल्डन फाइबर के रूप में जाना जाता है।

- Ans
- 1. कपास
 - 2. जूट
 - 3. मक्का
 - 4. सिंथेटिक धागा

Question ID : 264330115396
Status : Answered
Chosen Option : 2

Q.7 मानसिक बीमारी वाले व्यक्तियों के लिए मानसिक स्वास्थ्य देखभाल और सेवाएं प्रदान करने और ऐसे व्यक्तियों के अधिकारों की रक्षा, प्रचार और पूर्ति हेतु बना एक अधिनियम, _____ है।

- Ans
- 1. मानसिक दिव्यांगजन अधिनियम, 2017
 - 2. मानसिक शांति अधिनियम, 2017
 - 3. मानसिक स्वास्थ्य अधिनियम, 2017
 - 4. मानसिक स्वास्थ्य देखभाल अधिनियम, 2017

Question ID : 264330116216
Status : Answered
Chosen Option : 4

Q.8 कौटिल्य ने निम्नलिखित में से कौन-सी पुस्तक लिखी थी?

- Ans 1. अर्थशास्त्र
 2. सूक्तावली
 3. मुद्रा राक्षस
 4. इंडिका

Question ID : 26433099147

Status : Answered

Chosen Option : 1

Q.9 समुद्र से दूरी बढ़ने पर किस प्रकार की मौसम की स्थिति का अनुभव होता है?

- Ans 1. शीतोष्ण
 2. मध्यम
 3. चरम
 4. हल्की

Question ID : 264330115975

Status : Answered

Chosen Option : 1

Q.10 जनवरी 2022 में नागरिक उड्डयन मंत्रालय द्वारा राष्ट्रीय वायु खेल नीति (NASP) के ड्राफ्ट में किस प्रकार की शासन संरचना प्रस्तावित की गई थी?

- Ans 1. एकल स्तरीय
 2. दो स्तरीय
 3. तीन स्तरीय
 4. चार स्तरीय

Question ID : 264330114976

Status : Answered

Chosen Option : 3

Q.11 युमलम्बम गंभिनी देवी को किस कला रूप के लिए पद्म श्री से सम्मानित किया गया था?

- Ans 1. कथकली
 2. लावणी
 3. कथक
 4. मणिपुरी

Question ID : 264330115870

Status : Not Attempted and
Marked For Review

Chosen Option : --

Q.12 दिए गए विकल्पों में से क्या बजट का एक कार्य है?

- Ans
- 1. गांवों का ब्यौरा उपलब्ध कराना
 - 2. राज्यों के नाम प्रदान करना
 - 3. सरकार की आय और व्यय का विस्तृत विवरण प्रदान करना
 - 4. राज्यों और संघ का विवरण प्रदान करना

Question ID : 264330115273

Status : Answered

Chosen Option : 3

Q.13 भारतीय संविधान की सातवीं अनुसूची _____ से संबंधित है।

- Ans
- 1. राज्यों की न्यायपालिका
 - 2. संसद की शक्तियों
 - 3. केंद्र और राज्यों के बीच शक्तियों के विभाजन
 - 4. पंचायती राज

Question ID : 264330115608

Status : Answered

Chosen Option : 1

Q.14 हॉकी मैच में हाफ़ टाइम कितने मिनट के बाद शुरू होता है?

- Ans
- 1. 120 मिनट
 - 2. 45 मिनट
 - 3. 90 मिनट
 - 4. 30 मिनट

Question ID : 264330116284

Status : Answered

Chosen Option : 2

Q.15 In which areas is intensive subsistence farming practiced?

- Ans
- 1. areas of no population pressure on land
 - 2. areas of high population pressure on land
 - 3. areas of average population pressure on land
 - 4. areas of low population pressure on land

Question ID : 264330115520

Status : Answered

Chosen Option : 2

Q.16 कथकली की उत्पत्ति मुख्य रूप से निम्नलिखित में से किस राज्य से हुई है?

- Ans
- 1. आंध्र प्रदेश
 - 2. तमिलनाडु
 - 3. कर्नाटक
 - 4. केरल

Question ID : 264330115059

Status : Answered

Chosen Option : 4

Q.17 कौन सी योजना प्रत्येक सहायता प्राप्त परिवार को तीन वर्ष के भीतर गरीबी रेखा से ऊपर लाने के लिए देश के ग्रामीण क्षेत्रों में शुरू की गई?

- Ans
- 1. गरीब कल्याण रोजगार योजना
 - 2. प्रधानमंत्री रोजगार योजना
 - 3. ग्रामीण उद्यमी योजना
 - 4. स्वर्णजयंती ग्राम स्वरोजगार योजना

Question ID : 264330116070

Status : Answered

Chosen Option : 4

Q.18 स्वातंत्र्योत्तर भारत में, पहली निर्वाचित संसद _____ में अस्तित्व में आई थी।

- Ans
- 1. मार्च 1957
 - 2. अप्रैल 1952
 - 3. मार्च 1951
 - 4. अप्रैल 1957

Question ID : 26433089915

Status : Answered

Chosen Option : 4

Q.19 What is the trophic level of dead organic matter in detritus food chain?

- Ans
- 1. third
 - 2. fourth
 - 3. second
 - 4. first

Question ID : 264330115246

Status : Not Answered

Chosen Option : --

Q.20 निम्नलिखित में से कौन-सा देश 2019 दक्षिण एशियाई खेलों का हिस्सा नहीं था?

- Ans
- 1. भारत
 - 2. बांग्लादेश
 - 3. ताइवान
 - 4. भूटान

Question ID : 264330115936

Status : Answered

Chosen Option : 3

Section : Part-C-Elementary Mathematics

Q.1 एक व्यापारी अपने माल पर क्रय मूल्य से 20% अधिक मूल्य अंकित करता है और 10% की छूट देता है। वह एक दोषपूर्ण तराजू का उपयोग करता है जो 1 kg वजन के बजाय 800 ग्राम मापता है। उसका शुद्ध प्रतिशत लाभ क्या होगा?

- Ans
- 1. 35%
 - 2. 25%
 - 3. 20%
 - 4. 15%

Question ID : 26433075726

Status : Answered

Chosen Option : 1

Q.2 यदि किसी धनराशि पर 6% वार्षिक की दर से 2 वर्षों का साधारण ब्याज Rs.1,800 है, तो उसी धनराशि पर, समान अवधि के लिए, समान दर से वार्षिक रूप से चक्रवृद्धि हुआ चक्रवृद्धि ब्याज ज्ञात कीजिए।

- Ans
- 1. Rs.1,584
 - 2. Rs.1,854
 - 3. Rs.1,458
 - 4. Rs.1,548

Question ID : 26433073027

Status : Answered

Chosen Option : 2

Q.3 एक व्यक्ति P से Q तक 10 km/h की चाल से चलता है, लेकिन Q से P तक 12 km/h की चाल से वापस आता है। उसकी औसत चाल ज्ञात कीजिए।

- Ans
- 1. $\frac{10}{11}$ km/h
 - 2. $9\frac{10}{11}$ km/h
 - 3. $10\frac{10}{11}$ km/h
 - 4. $11\frac{10}{11}$ km/h

Question ID : 26433064030

Status : Answered

Chosen Option : 3

Q.4 एक स्कूल में, लड़कों की संख्या का 20%, लड़कियों की संख्या के $\frac{2}{3}$ के बराबर है।
उस स्कूल में लड़कों का लड़कियों के साथ अनुपात क्या है ?

- Ans
- 1. 10 : 9
 - 2. 9 : 10
 - 3. 10 : 3
 - 4. 3 : 10

Question ID : 26433073020
Status : Answered
Chosen Option : 3

Q.5 500 और 8000 का मध्यानुपाती ज्ञात कीजिए।

- Ans
- 1. 632.46
 - 2. 200
 - 3. 2000
 - 4. 4000

Question ID : 26433080322
Status : Answered
Chosen Option : 3

Q.6 एक व्यक्ति द्वारा धारा की दिशा में किसी गंतव्य तक जाने, और वहां से आरंभिक स्थान तक वापस लौटने में 3 घंटे का समय लगता है। यदि शांत जल में नाव की चाल और धारा की चाल क्रमशः 6 km/h और 3 km/h है, तो आरंभिक स्थान से गंतव्य की दूरी कितनी होगी?

- Ans
- 1. 3.25 km
 - 2. 5.55 km
 - 3. 6.75 km
 - 4. 4.20 km

Question ID : 26433074998
Status : Answered
Chosen Option : 3

Q.7 एक दुकानदार अंकित मूल्य पर 15% की छूट देने के बाद 8% का लाभ अर्जित करता है। स्टॉक को खाली करने के लिए, दुकानदार x% की क्रमिक छूट देता है और कोई लाभ या हानि नहीं कमाता है। x का मान (लगभग) क्या होगा?

- Ans
- 1. 7.6
 - 2. 7.4
 - 3. 7.8
 - 4. 8.0

Question ID : 26433081710
Status : Not Answered
Chosen Option : --

Q.8 एक स्कूल बैग और एक जूते के मूल्य 11 : 9 के अनुपात में हैं। स्कूल बैग का मूल्य जूते के मूल्य से Rs.450 अधिक है। जूते का मूल्य कितना है?

- Ans
- 1. Rs. 2,050
 - 2. Rs. 2,025
 - 3. Rs. 2,000
 - 4. Rs. 2,150

Question ID : 26433081017

Status : Answered

Chosen Option : 2

Q.9 अजीत एक कार्य को पूरा करने में अरुण से दोगुना और संजीव से तिगुना समय लेता है। यदि वे तीनों एक साथ कार्य करते हुए इसे 53 घंटे में पूरा कर सकते हों, तो संजीव द्वारा अकेले इस कार्य को पूरा करने में लिया गया समय ज्ञात कीजिए।

- Ans
- 1. 100 घंटे
 - 2. 106 घंटे
 - 3. 103 घंटे
 - 4. 105 घंटे

Question ID : 26433074944

Status : Answered

Chosen Option : 2

Q.10 एक व्यक्ति सख्त आहार का पालन करता है और एक महीने में अपना भार 80 kg से कम करके 72 kg कर लेता है। व्यक्ति के वजन घटाने का प्रतिशत है:

- Ans
- 1. 8 प्रतिशत
 - 2. 10 प्रतिशत
 - 3. 5 प्रतिशत
 - 4. 12 प्रतिशत

Question ID : 264330116820

Status : Answered

Chosen Option : 2

Q.11 दो वर्ष पहले, एक शहर की जनसंख्या 260000 थी। यदि जनसंख्या में प्रत्येक वर्ष 4% की कमी हो रही है, तो इसकी वर्तमान जनसंख्या कितनी है?

- Ans
- 1. 239000
 - 2. 139616
 - 3. 239616
 - 4. 339610

Question ID : 26433081038

Status : Answered

Chosen Option : 3

Q.12 एक परिवार के 2 बच्चों की औसत आयु 12 वर्ष है। माता-पिता सहित परिवार की औसत आयु 30 वर्ष है। यदि पिता माता से 4 वर्ष बड़ा है, तो पिता की आयु ज्ञात करें?

- Ans 1. 50 वर्ष
 2. 46 वर्ष
 3. 52 वर्ष
 4. 48 वर्ष

Question ID : 264330116680
Status : Answered
Chosen Option : 1

Q.13 दो अंको की कितनी संख्याएँ 6 से विभाज्य हैं?

- Ans 1. 18
 2. 12
 3. 16
 4. 15

Question ID : 26433075808
Status : Answered
Chosen Option : 4

Q.14 एक वस्तु का अंकित मूल्य 1000 रुपए है और दुकानदार ने 40 प्रतिशत की छूट दी। विक्रय मूल्य क्या होगा?

- Ans 1. 600 रुपए
 2. 700 रुपए
 3. 400 रुपए
 4. 500 रुपए

Question ID : 264330116712
Status : Answered
Chosen Option : 1

Q.15 एक शंकु का वक्र पृष्ठीय क्षेत्रफल 1100 cm^2 है। यदि शंकु का व्यास 28 cm है, तो शंकु की तिर्यक ऊंचाई ज्ञात कीजिए।

($\pi = \frac{22}{7}$ का उपयोग कीजिए)

- Ans 1. 44 cm
 2. 12.5 cm
 3. 25 cm
 4. 37.5 cm

Question ID : 26433087413
Status : Answered
Chosen Option : 3

Q.16 तीन धावक एक वृत्ताकार पथ पर दौड़ना आरम्भ करते हैं। वे समान बिंदु से सुबह 6 बजे शुरू करते हैं और 1 चक्कर पूरा करने के लिए क्रमशः 12 सेकंड, 15 सेकंड और 24 सेकंड का समय लेते हैं। वे फिर से आरंभिक बिन्दु पर किस समय मिलेंगे?

- Ans 1. 6:02:00 AM
 2. 6:02:30 AM
 3. 6:03:20 AM
 4. 6:01:40 AM

Question ID : 264330116649

Status : Answered

Chosen Option : 1

Q.17 अमित एक कार्य को 120 दिनों में पूरा कर सकता है। अमित और सेजल उसी कार्य को 72 दिनों में पूरा कर सकते हैं। उन्होंने एक साथ शुरू किया लेकिन सेजल ने 20 दिनों तक काम करने के बाद छोड़ दिया। दिनों की अनुमानित संख्या ज्ञात करें जिसमें अमित शेष कार्य को पूरा करेगा।

- Ans 1. 90 दिन
 2. 84 दिन
 3. 87 दिन
 4. 76 दिन

Question ID : 264330116900

Status : Answered

Chosen Option : 3

Q.18 रश्मि Rs.80 प्रत्येक की दर से 50 पुस्तकें, Rs.60 प्रत्येक की दर से 46 कलम और Rs.30 प्रत्येक की दर से 60 पेंसिलें खरीदती है। सभी स्टेशनरी वस्तुओं के औसत मूल्य (Rs. में) की गणना करें। (2 दशमलव स्थानों तक पूर्णांकित)

- Ans 1. Rs.46.77
 2. Rs.65.79
 3. Rs.49.87
 4. Rs.54.87

Question ID : 26433082706

Status : Answered

Chosen Option : 4

Q.19 एक लड़का एक खिलौना कार Rs.650 में खरीदता है और उसे Rs.750 में बेचता है। लाभ प्रतिशत ज्ञात कीजिए।

- Ans 1. 16.38%
 2. 14.38%
 3. 13.33%
 4. 15.38%

Question ID : 26433065064

Status : Answered

Chosen Option : 2

Q.20 यदि एक बेलनाकार स्तंभ का आयतन 924 m^3 है और इसका वक्र पृष्ठीय क्षेत्रफल 264 m^2 है, तो कुल पृष्ठीय क्षेत्रफल _____ है।

- Ans
- ✓ 1. $182 \pi \text{ m}^2$
 - ✗ 2. 184 m^2
 - ✗ 3. $164 \pi \text{ m}^2$
 - ✗ 4. 164 m^2

Question ID : 26433075898

Status : Answered

Chosen Option : 1

Section : Part-D-English

Q.1 Parts of the given sentence have been given as options. One of them contains a spelling error. Select the option that rectifies the error.

The Magdeburg water bridge is the longest navigable aquaduct built over the river Elbe in Germany.

- Ans
- ✗ 1. longgest
 - ✗ 2. brige
 - ✗ 3. navaigable
 - ✓ 4. aqueduct

Question ID : 26433072044

Status : Answered

Chosen Option : 3

Q.2 Select the most appropriate synonym for the underlined word in the given sentence.

The wily Jerry mouse very deftly removed the cheese from the trap.

- Ans
- ✗ 1. wise
 - ✗ 2. worn
 - ✓ 3. crafty
 - ✗ 4. worrisome

Question ID : 26433073755

Status : Answered

Chosen Option : 1

Q.3 Select the most appropriate meaning of the given idiom.

Forty winks

- Ans
- ✗ 1. To do something forty times
 - ✓ 2. To take a short nap
 - ✗ 3. To be worried
 - ✗ 4. To hurry and rush

Question ID : 26433073706

Status : Answered

Chosen Option : 2

Q.4 Select the most appropriate option to fill in the blank.

Don't go to the neighbour's garden, _____ not allowed to go there.

- Ans
- 1. yore
 - 2. you're
 - 3. your
 - 4. yor

Question ID : 26433088939
Status : Answered
Chosen Option : 2

Q.5 Select the most appropriate option to fill in the blank.

Evelyn became very angry; it seemed to her that she _____ never fulfil her dream of being a great musician.

- Ans
- 1. ought to
 - 2. would
 - 3. will
 - 4. can

Question ID : 26433090440
Status : Answered
Chosen Option : 2

Q.6 Select the most appropriate ANTONYM of the given word.

Common

- Ans
- 1. Rare
 - 2. Boring
 - 3. Ordinary
 - 4. Shocking

Question ID : 26433086375
Status : Answered
Chosen Option : 1

Q.7 The following sentence has been split into four segments. Identify the segment that contains a grammatical error.

When I / was / young, I / play hockey.

- Ans
- 1. was
 - 2. young, I
 - 3. When I
 - 4. play hockey

Question ID : 26433092277
Status : Answered
Chosen Option : 4

Q.8 Select the most appropriate ANTONYM of the given word.

Hostility

- Ans
- 1. Silliness
 - 2. Enmity
 - 3. Absurdity
 - 4. Friendship

Question ID : 26433073919
Status : Answered
Chosen Option : 4

Q.9 Select the most appropriate antonym of the bracketed word to fill in the blank.

It would be _____ (annoying) to watch India hosting the World Cup and winning it at the same time.

- Ans
- 1. irksome
 - 2. pesky
 - 3. plaguy
 - 4. delightful

Question ID : 26433060717
Status : Answered
Chosen Option : 4

Q.10 Select the most appropriate option that can substitute the underlined words in the given sentence.

Hima was so affected by the movie that she has not speak a word to anyone for a week.

- Ans
- 1. that she has not been spoken a word
 - 2. that she is speaking
 - 3. that she has been speaking
 - 4. that she did not speak a word

Question ID : 26433099935
Status : Answered
Chosen Option : 4

Q.11 Select the most appropriate option to fill in the blank.

The Kathakali dance form, which combines music, dance, poetry, drama and mime, uses _____ costumes.

- Ans
- 1. scruffy
 - 2. gaudy
 - 3. elaborate
 - 4. generic

Question ID : 26433071743
Status : Answered
Chosen Option : 1

Q.12 Select the most appropriate meaning of the given idiom.

A Penelope's web

- Ans
- 1. A meaningless job
 - 2. An important job
 - 3. A daily job
 - 4. An endless job

Question ID : 26433070685
Status : Not Answered
Chosen Option : --

Q.13 Select the most appropriate synonym of the word given below to fill in the blank in the following sentence.

Adversity

The sage said, "One should keep patience during _____".

- Ans
- 1. good times
 - 2. tribute
 - 3. hardships
 - 4. challenges

Question ID : 26433084775
Status : Answered
Chosen Option : 4

Q.14 Which of the following options is most similar in meaning to the given word?
Laudable

- Ans
- 1. Sensible
 - 2. Returnable
 - 3. Preventable
 - 4. Praiseworthy

Question ID : 26433088813
Status : Answered
Chosen Option : 4

Q.15 Select the INCORRECTLY spelt word

- Ans
- 1. Robber
 - 2. Radar
 - 3. Rebber
 - 4. Rather

Question ID : 26433071817
Status : Answered
Chosen Option : 3

Comprehension:

In the following passage, some words have been deleted. Read the passage carefully and select the most appropriate option to fill in each blank.

The Chinese rulers were called the Shang. Chinese civilisation is one of the oldest civilisations of the world which (1)_____ in north-east China. The Chinese had thought (2)_____ a very clever way of casting weapons and pots which were made of bronze. These people first made a rough model of the object they wanted to cast or make. Then, they shaped the clay mould closely (3)_____ the prepared model. When the clay was dry, the mould was (4)_____ and cut into pieces. These carved pieces were filled with molten bronze and left to cool down. In the final process, the mould was removed and a perfectly formed object was (5)_____.

SubQuestion No : 16

Q.16 Select the most appropriate option to fill in blank number 1.

- Ans
- 1. displayed
 - 2. flaunted
 - 3. exhibited
 - 4. flourished

Question ID : 26433088885

Status : Answered

Chosen Option : 4

Comprehension:

In the following passage, some words have been deleted. Read the passage carefully and select the most appropriate option to fill in each blank.

The Chinese rulers were called the Shang. Chinese civilisation is one of the oldest civilisations of the world which (1)_____ in north-east China. The Chinese had thought (2)_____ a very clever way of casting weapons and pots which were made of bronze. These people first made a rough model of the object they wanted to cast or make. Then, they shaped the clay mould closely (3)_____ the prepared model. When the clay was dry, the mould was (4)_____ and cut into pieces. These carved pieces were filled with molten bronze and left to cool down. In the final process, the mould was removed and a perfectly formed object was (5)_____.

SubQuestion No : 17

Q.17 Select the most appropriate option to fill in blank number 2.

- Ans
- 1. up
 - 2. into
 - 3. in
 - 4. down

Question ID : 26433088886

Status : Answered

Chosen Option : 1

Comprehension:

In the following passage, some words have been deleted. Read the passage carefully and select the most appropriate option to fill in each blank.

The Chinese rulers were called the Shang. Chinese civilisation is one of the oldest civilisations of the world which (1)_____ in north-east China. The Chinese had thought (2)_____ a very clever way of casting weapons and pots which were made of bronze. These people first made a rough model of the object they wanted to cast or make. Then, they shaped the clay mould closely (3)_____ the prepared model. When the clay was dry, the mould was (4)_____ and cut into pieces. These carved pieces were filled with molten bronze and left to cool down. In the final process, the mould was removed and a perfectly formed object was (5)_____.

SubQuestion No : 18

Q.18 Select the most appropriate option to fill in blank number 3.

- Ans 1. behind
 2. beside
 3. around
 4. across

Question ID : 26433088887

Status : Answered

Chosen Option : 3

Comprehension:

In the following passage, some words have been deleted. Read the passage carefully and select the most appropriate option to fill in each blank.

The Chinese rulers were called the Shang. Chinese civilisation is one of the oldest civilisations of the world which (1)_____ in north-east China. The Chinese had thought (2)_____ a very clever way of casting weapons and pots which were made of bronze. These people first made a rough model of the object they wanted to cast or make. Then, they shaped the clay mould closely (3)_____ the prepared model. When the clay was dry, the mould was (4)_____ and cut into pieces. These carved pieces were filled with molten bronze and left to cool down. In the final process, the mould was removed and a perfectly formed object was (5)_____.

SubQuestion No : 19

Q.19 Select the most appropriate option to fill in blank number 4.

- Ans 1. distanced
 2. removed
 3. slipped
 4. closed

Question ID : 26433088888

Status : Answered

Chosen Option : 2

Comprehension:

In the following passage, some words have been deleted. Read the passage carefully and select the most appropriate option to fill in each blank.

The Chinese rulers were called the Shang. Chinese civilisation is one of the oldest civilisations of the world which (1)_____ in north-east China. The Chinese had thought (2)_____ a very clever way of casting weapons and pots which were made of bronze. These people first made a rough model of the object they wanted to cast or make. Then, they shaped the clay mould closely (3)_____ the prepared model. When the clay was dry, the mould was (4)_____ and cut into pieces. These carved pieces were filled with molten bronze and left to cool down. In the final process, the mould was removed and a perfectly formed object was (5)_____.

SubQuestion No : 20

Q.20 Select the most appropriate option to fill in blank number 5.

- Ans 1. disclosed
 2. revealed
 3. dropped
 4. divulged

Question ID : 26433088889

Status : Answered

Chosen Option : 2

Section : Part-D-Hindi

Q.1 'जिस पर आक्रमण न किया गया हो' वाक्यांश के लिए एक शब्द है-

- Ans 1. आक्रांत
 2. आक्रमणशील
 3. अनाक्रांत
 4. अनाधिकृत

Question ID : 26433062156

Status : Not Answered

Chosen Option : --

Q.2 निम्नलिखित वाक्यांश के लिए उपयुक्त सार्थक शब्द क्या होगा?
सरकारी अधिकारियों का शासन

- Ans 1. सरकार
 2. राजशाही
 3. शासन
 4. नौकरशाही

Question ID : 26433073314

Status : Not Answered

Chosen Option : --

Q.3 वर्तनी की दृष्टि से दिए गए वाक्य के अशुद्ध भाग का चयन कीजिए-
घोषणा की गई कि लोग अपने-अपने हथियार मालखाने में जमा कर दें।

- Ans
- 1. में जमा कर दें।
 - 2. हथियार मालखाने
 - 3. घोषणा की गई
 - 4. कि लोग अपने-अपने

Question ID : 26433062883
Status : Not Answered
Chosen Option : --

Q.4 निम्नलिखित मुहावरे का सही अर्थ विकल्पों में से चुनिए।
छाती पर कोदो दलना

- Ans
- 1. पीछे लगे रहना
 - 2. प्रतिशोधात्मक कष्ट पहुँचाना
 - 3. कुछ भी ध्यान न देना
 - 4. लापरवाह होना

Question ID : 26433070011
Status : Not Answered
Chosen Option : --

Q.5 निम्न में से कौन-सा शब्द 'समुद्र' शब्द का पर्यायवाची शब्द है?

- Ans
- 1. अम्बर
 - 2. सागर
 - 3. वारिद
 - 4. नीरज

Question ID : 26433067077
Status : Not Answered
Chosen Option : --

Q.6 दिए गए विकल्पों में से कौन सा शब्द निम्नलिखित वाक्य में रेखांकित शब्द का पर्यायवाची नहीं है?
'समुद्र' पर सेतु का निर्माण करना उन्नत यांत्रिकी का परिणाम है।

- Ans
- 1. रवि
 - 2. पयोधि
 - 3. रत्नाकर
 - 4. अर्णव

Question ID : 26433091342
Status : Not Answered
Chosen Option : --

Q.7 शब्द विचार की दृष्टि से क्रिया विशेषण शब्द है-

- Ans
- 1. सकर्मक
 - 2. अकर्मक
 - 3. अविकारी
 - 4. विकारी

Question ID : 26433085047

Status : Not Answered

Chosen Option : --

Q.8 निम्नलिखित मुहावरे के लिए उपयुक्त सार्थक शब्द क्या होगा?
दांतों तले उंगली दबाना

- Ans
- 1. खुश होना
 - 2. गरीब होना
 - 3. आश्चर्य करना
 - 4. भूखे पेट होना

Question ID : 26433065772

Status : Not Answered

Chosen Option : --

Q.9 'आँवले के रस का उपयोग आपके लिए लाभकारी साबित होगा।' उपरोक्त वाक्य में प्रयुक्त 'उपयोग' शब्द का सही अर्थ क्या होगा?

- Ans
- 1. धोना
 - 2. फायदेमंद
 - 3. पीना
 - 4. लाभकारी

Question ID : 26433080916

Status : Not Answered

Chosen Option : --

Q.10 निम्नलिखित वाक्यांश के लिए सार्थक शब्द चुनिए।
अवसर के अनुसार बदल जाने वाला

- Ans
- 1. स्वार्थन्वेषी
 - 2. अवसरवादी
 - 3. फायदामंद
 - 4. अवश्यंभावी

Question ID : 26433069981

Status : Not Answered

Chosen Option : --

Q.11 'तुम्हारे तो साँस में दम हो गया।' इस वाक्य में 'साँस' के स्थान पर उपयुक्त शब्द क्या होगा?

- Ans
- 1. आंख
 - 2. सर
 - 3. नाक
 - 4. मुंह

Question ID : 26433066802

Status : Not Answered

Chosen Option : --

Q.12 निम्नलिखित वाक्य के किस शब्द में अशुद्धि है?
लोग रविवार को छुट्टी मनाते हैं।

- Ans
- 1. रविवार
 - 2. मनाते
 - 3. लोग
 - 4. छुट्टी

Question ID : 26433066769

Status : Not Answered

Chosen Option : --

Q.13 निम्नलिखित विकल्पों में से किस एक वाक्य में 'अनृत' शब्द के लिए उचित विलोम का प्रयोग हुआ है?

- Ans
- 1. वह बेहतर करता है।
 - 2. सत्य की विजय होती है।
 - 3. वह सुन्दर है।
 - 4. वह अपराधी है।

Question ID : 26433091190

Status : Not Answered

Chosen Option : --

Q.14 निम्नलिखित वाक्य में उचित विकल्प चुनकर शब्द बदलें-
'उसकी भाषा सरल और सुबोधपूर्ण होती है।'

- Ans
- 1. सरस और सुबोधपूर्ण
 - 2. सहज और सुबोधक
 - 3. सरल और सुबोध
 - 4. सरल और सुबोध

Question ID : 26433062807

Status : Not Answered

Chosen Option : --

Q.15 निम्न विकल्पों में से किसमें गलत अपादान कारक का प्रयोग हुआ है?

- Ans 1. वह मुझको अलग रहता है।
 2. मेरे हाथ से छड़ी छूट पड़ी।
 3. दूध से दही बनता है।
 4. वह लखनऊ से आया है।

Question ID : 26433063032

Status : Not Answered

Chosen Option : --

Comprehension:

निम्नलिखित गद्यांश में कुछ शब्दों को हटा दिया गया है। दिए गए विकल्पों की सहायता से रिक्त स्थानों की पूर्ति कीजिए। प्रत्येक संख्या के लिए सबसे उपयुक्त विकल्प का चयन कीजिए।

आम एक ऐसा फल है, जो बच्चों को ही नहीं, बड़ों को भी 1. _____ है। इसीलिए इसे फलों का राजा कहते हैं। इसकी बहुत सी 2. _____ होती हैं। स्वास्थ्य के लिए यह बहुत 3. _____ होता है। इसका अचार डाला जाता है, जिसका सब बहुत वर्षों तक 4. _____ करते हैं। दूध के साथ इसका रस निकालकर पीया जाता है। यद्यपि बाग से आम तोड़कर खाना चोरी होती है, पर बच्चों के लिए तो यह खेल है, मनोरंजन का 5. _____ है।

SubQuestion No : 16

Q.16 रिक्त स्थान 1 की पूर्ति के लिए सबसे उपयुक्त विकल्प का चयन कीजिए।

- Ans 1. आनंद
 2. नापसंद
 3. फेंकना
 4. पसंद

Question ID : 264330111089

Status : Not Answered

Chosen Option : --

Comprehension:

निम्नलिखित गद्यांश में कुछ शब्दों को हटा दिया गया है। दिए गए विकल्पों की सहायता से रिक्त स्थानों की पूर्ति कीजिए। प्रत्येक संख्या के लिए सबसे उपयुक्त विकल्प का चयन कीजिए।

आम एक ऐसा फल है, जो बच्चों को ही नहीं, बड़ों को भी 1. _____ है। इसीलिए इसे फलों का राजा कहते हैं। इसकी बहुत सी 2. _____ होती हैं। स्वास्थ्य के लिए यह बहुत 3. _____ होता है। इसका अचार डाला जाता है, जिसका सब बहुत वर्षों तक 4. _____ करते हैं। दूध के साथ इसका रस निकालकर पीया जाता है। यद्यपि बाग से आम तोड़कर खाना चोरी होती है, पर बच्चों के लिए तो यह खेल है, मनोरंजन का 5. _____ है।

SubQuestion No : 17

Q.17 रिक्त स्थान 2 की पूर्ति के लिए सबसे उपयुक्त विकल्प का चयन कीजिए।

- Ans 1. किस्में
 2. पेड़ों
 3. लाभ
 4. बातें

Question ID : 264330111090

Status : Not Answered

Chosen Option : --

Comprehension:

निम्नलिखित गद्यांश में कुछ शब्दों को हटा दिया गया है। दिए गए विकल्पों की सहायता से रिक्त स्थानों की पूर्ति कीजिए। प्रत्येक संख्या के लिए सबसे उपयुक्त विकल्प का चयन कीजिए। आम एक ऐसा फल है, जो बच्चों को ही नहीं, बड़ों को भी 1. _____ है। इसीलिए इसे फलों का राजा कहते हैं। इसकी बहुत सी 2. _____ होती हैं। स्वास्थ्य के लिए यह बहुत 3. _____ होता है। इसका अचार डाला जाता है, जिसका सब बहुत वर्षों तक 4. _____ करते हैं। दूध के साथ इसका रस निकालकर पीया जाता है। यद्यपि बाग से आम तोड़कर खाना चोरी होती है, पर बच्चों के लिए तो यह खेल है, मनोरंजन का 5. _____ है।

SubQuestion No : 18

Q.18 रिक्त स्थान 3 की पूर्ति के लिए सबसे उपयुक्त विकल्प का चयन कीजिए।

- Ans
- 1. नुकसानदेह
 - 2. लाभदायक
 - 3. अग्निकारक
 - 4. विकारक

Question ID : 264330111091

Status : Not Answered

Chosen Option : --

Comprehension:

निम्नलिखित गद्यांश में कुछ शब्दों को हटा दिया गया है। दिए गए विकल्पों की सहायता से रिक्त स्थानों की पूर्ति कीजिए। प्रत्येक संख्या के लिए सबसे उपयुक्त विकल्प का चयन कीजिए। आम एक ऐसा फल है, जो बच्चों को ही नहीं, बड़ों को भी 1. _____ है। इसीलिए इसे फलों का राजा कहते हैं। इसकी बहुत सी 2. _____ होती हैं। स्वास्थ्य के लिए यह बहुत 3. _____ होता है। इसका अचार डाला जाता है, जिसका सब बहुत वर्षों तक 4. _____ करते हैं। दूध के साथ इसका रस निकालकर पीया जाता है। यद्यपि बाग से आम तोड़कर खाना चोरी होती है, पर बच्चों के लिए तो यह खेल है, मनोरंजन का 5. _____ है।

SubQuestion No : 19

Q.19 रिक्त स्थान 4 की पूर्ति के लिए सबसे उपयुक्त विकल्प का चयन कीजिए।

- Ans
- 1. मनोरंजन
 - 2. इच्छा
 - 3. खाना
 - 4. सेवन

Question ID : 264330111092

Status : Not Answered

Chosen Option : --

Comprehension:

निम्नलिखित गद्यांश में कुछ शब्दों को हटा दिया गया है। दिए गए विकल्पों की सहायता से रिक्त स्थानों की पूर्ति कीजिए। प्रत्येक संख्या के लिए सबसे उपयुक्त विकल्प का चयन कीजिए।
आम एक ऐसा फल है, जो बच्चों को ही नहीं, बड़ों को भी 1. _____ है। इसीलिए इसे फलों का राजा कहते हैं। इसकी बहुत सी 2. _____ होती हैं। स्वास्थ्य के लिए यह बहुत 3. _____ होता है। इसका अचार डाला जाता है, जिसका सब बहुत वर्षों तक 4. _____ करते हैं। दूध के साथ इसका रस निकालकर पीया जाता है। यद्यपि बाग से आम तोड़कर खाना चोरी होती है, पर बच्चों के लिए तो यह खेल है, मनोरंजन का 5. _____ है।

SubQuestion No : 20

Q.20 रिक्त स्थान 5 की पूर्ति के लिए सबसे उपयुक्त विकल्प का चयन कीजिए।

- Ans
- 1. जीवन
 - 2. साधन
 - 3. प्रकृति
 - 4. प्राप्ति

Question ID : 264330111093

Status : Not Answered

Chosen Option : --

KD Job Updates

Constable GD in CAPFs SSF Rifleman GD in Assam Rifles and Sepoy in NCB Examination 2022

Roll Number	KD Job Updates
Candidate Name	KD Job Updates
Venue Name	ION Digital Zone iDZ Village Adampur Raisen Road
Exam Date	08/02/2023
Exam Time	2:30 PM - 3:30 PM
Subject	Constable GD Examination 2022

Section : Part-A-General Intelligence and Reasoning

Q.1 एक निश्चित कूट भाषा में, 'fever origin' को 'tree cloud' के रूप में कूटबद्ध किया जाता है, 'apple origin' को 'brown cloud' के रूप में कूटबद्ध किया जाता है और 'sandwich fever' को 'shoe tree' के रूप में कूटबद्ध किया जाता है। 'apple' के लिए कूट शब्द क्या होगा?

Ans ✓ 1. brown

✗ 2. cloud

✗ 3. sandwich

✗ 4. fever

Question ID : 26433079363

Status : Answered

Chosen Option : 1

Q.2 उस विकल्प का चयन करें जो पाँचवें पद से उसी तरह से संबंधित है, जिस तरह से दूसरा पद पहले पद से संबंधित है और चौथा पद तीसरे पद से संबंधित है।

ENGLISH : HSILGNE :: BIOLOGY : YGOLOIB :: PHYSICS : ?

Ans ✗ 1. SPSICSY

✗ 2. PYHISCS

✓ 3. SCISYHP

✗ 4. SYPHSIC

Question ID : 26433067267

Status : Answered

Chosen Option : 3

Q.3 निम्न श्रृंखला में प्रश्न-चिह्न (?) के स्थान पर कौन सी संख्या आएगी?
125, 120, 130, ?, 135, 110

Ans ✗ 1. 150

✗ 2. 110

✓ 3. 115

✗ 4. 140

Question ID : 26433067837

Status : Answered

Chosen Option : 3

Q.4 कौन-सा अक्षर-समूह दी गई श्रृंखला में प्रश्नचिह्न (?) के स्थान पर आकर श्रृंखला को पूर्ण करेगा?
JSCM, ?, NYKW, PBOB, RESG

- Ans 1. LVGR
 2. NXIS
 3. MUHQ
 4. MWHS

Question ID : 26433068035
 Status : Answered
 Chosen Option : 1

Q.5 यदि श्रृंखला जारी रखनी है तो कौन-सी आकृति प्रश्न चिह्न (?) के स्थान पर आएगी?

X	↑	O	Y	
O Y 3	3 O Y	X ↑ Δ	Δ X ↑	?
Δ ↑	X Δ	3 Y O	3	

Ans

1.

3
↑ Δ X
Y O
2.

O
↑ Δ X
3 Y
3.

X
3 Y O
↑ Δ
4.

X
O Y 3
Δ ↑

Question ID : 26433076633
 Status : Answered
 Chosen Option : 1

Q.6 नीचे दिए गए समीकरण को गणितीय रूप से सही बनाने के लिए किन दो गणितीय चिन्हों को परस्पर बदलना चाहिए?
 $360 \times 9 - 320 + 72 \div 5 = 80$

- Ans
- 1. + और ÷
 - 2. + और ×
 - 3. - और ÷
 - 4. × और ÷

Question ID : 264330117488

Status : Answered

Chosen Option : 4

Q.7 चार मित्र राम, श्याम, सुनील और अनिल एक वृत्ताकार मेज के परितः मेज के केंद्र की ओर मुख करके बैठे हुए हैं। यदि राम, सुनील के बाईं ओर ठीक बगल में बैठा है और श्याम, राम के बगल में नहीं बैठा है, तो श्याम के बाईं ओर ठीक बगल में कौन बैठा है?

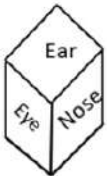
- Ans
- 1. या तो राम या सुनील
 - 2. सुनील
 - 3. अनिल
 - 4. राम

Question ID : 264330114205

Status : Answered

Chosen Option : 2

Q.8 एक ही पासे की दो अलग-अलग स्थितियों को दर्शाया गया है जिस पर शरीर के अलग-अलग हिस्सों के नाम दिखाए गए हैं - जो कि Ear, Eye, Nose, Mouth, Head और Hand हैं। 'Ear' दिखाने वाले फलक के विपरीत फलक पर शरीर के कौन-से हिस्से का नाम दर्शाया गया है?



- Ans
- 1. Head
 - 2. Eye
 - 3. Hand
 - 4. Mouth

Question ID : 26433085522

Status : Answered

Chosen Option : 3

Q.9 उस विकल्प का चयन कीजिए जो तीसरे शब्द से उसी प्रकार संबंधित है जिस प्रकार दूसरा शब्द पहले शब्द से संबंधित है। (शब्दों को अर्थपूर्ण शब्दों के रूप में मानना है और उन्हें शब्द में अक्षरों/व्यंजनों/स्वरों की संख्या के आधार पर एक-दूसरे से संबंधित नहीं करना है।)
घोड़ी : घोड़ा :: गाय : ?

- Ans
- 1. दूध
 - 2. सांड
 - 3. बछड़ा
 - 4. झुंड

Question ID : 26433069577

Status : Answered

Chosen Option : 2

Q.10 एक कूट भाषा में, 'he came forward' को 'ar ka mu', 'move forward' को 'ba mu', और 'he must move' को 'ar du ba' के रूप में कूटबद्ध किया जाता है। शब्द 'must' के लिए कूट क्या होगा?

- Ans
- 1. du
 - 2. ba
 - 3. mu
 - 4. ar

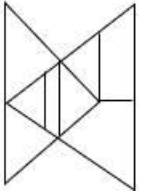
Question ID : 26433069469

Status : Answered

Chosen Option : 1

Q.11 वह विकल्प चित्र चुनिए, जो प्रस्तुत चित्र में अंतर्निहित है। (घुमाना अनुमन्य नहीं

है)



Ans

- 1.
- 2.
- 3.
- 4.

Question ID : 26433069330

Status : Not Answered

Chosen Option : --

Q.12 निम्नलिखित में से कौन-सी संख्या दी गई श्रृंखला में प्रश्न-चिह्न (?) को प्रतिस्थापित करेगी?
59, 72, 87, 104, ?, 144

- Ans
- 1. 125
 - 2. 121
 - 3. 127
 - 4. 123

Question ID : 26433069394

Status : Answered

Chosen Option : 4

Q.13 दी गई आकृति के सही दर्पण प्रतिबिम्ब का चयन करें जब दर्पण को MN पर रखा जाए जैसा कि नीचे दर्शाया गया है।

KNOWledGe

M
|
N

- Ans
- 1.
 - 2.
 - 3.
 - 4.

Question ID : 26433085553

Status : Answered

Chosen Option : 2

Q.14 यदि '+' का अर्थ है '×', '-' का अर्थ है '+', '·' का अर्थ है '÷' और '×' का अर्थ है '·', तो निम्नलिखित में से कौन-सा अभिव्यक्ति $48 \div 72 - 6 \times 18 + 3$ का मान होगा?

- Ans
- 1. 16
 - 2. 18
 - 3. 12
 - 4. 6

Question ID : 264330114193

Status : Answered

Chosen Option : 4

Q.15 निम्नलिखित में से कौन-सा अक्षर नीचे दी गई अक्षर श्रृंखला में प्रश्न-चिह्न (?) के स्थान पर आकर श्रृंखला को पूर्ण करेगा?
K, N, R, W, C, ?

- Ans
- 1. L
 - 2. J
 - 3. K
 - 4. I

Question ID : 26433067296

Status : Answered

Chosen Option : 2

Q.16 निम्नलिखित प्रश्न में तीन कथनों के बाद दो निष्कर्ष I और II दिए गए हैं। कथनों को सत्य मानते हुए, भले ही वे सर्वज्ञात तथ्यों से भिन्न प्रतीत होते हों, तय कीजिए कि कौन-सा/से निष्कर्ष कथनों का तार्किक रूप से अनुसरण करता/करते है/हैं।

कथन:

सभी खेत बगीचे हैं।

सभी बगीचे पार्क हैं।

कुछ बगीचे अपार्टमेंट हैं।

निष्कर्ष:

I. कुछ अपार्टमेंट पार्क हैं।

II. सभी खेत पार्क हैं।

- Ans
- 1. केवल निष्कर्ष I अनुसरण करता है।
 - 2. केवल निष्कर्ष II अनुसरण करता है।
 - 3. निष्कर्ष I और II दोनों अनुसरण करते हैं।
 - 4. न तो निष्कर्ष I और न ही निष्कर्ष II अनुसरण करता है।

Question ID : 26433083095

Status : Answered

Chosen Option : 3

Q.17 'A + B' का अर्थ है 'B, A का पिता है'
'A @ B' का अर्थ है 'B, A का भाई है'
'A \$ B' का अर्थ है 'B, A का पति है'
'A & B' का अर्थ है 'B, A की पत्नी है'
यदि A @ B + C & D @ E है, तो E, A से किस प्रकार संबंधित है?

- Ans
- 1. पुत्र
 - 2. मामा
 - 3. पति
 - 4. भाई

Question ID : 26433068528

Status : Answered

Chosen Option : 2

Q.18 सात व्यक्ति A, B, C, D, E, F और G एक सीधी पंक्ति में उत्तर की ओर मुख करके बैठे हैं। D और G के बीच केवल दो व्यक्ति बैठे हैं। G और A के बीच केवल चार व्यक्ति बैठे हैं। B, A के दाईं ओर चौथे स्थान पर बैठा है। G, B और F के ठीक मध्य में बैठा है। F, C के दाईं ओर पांचवें स्थान पर बैठा है। पंक्ति के बाएं सिरे से तीसरे स्थान पर कौन बैठा है?

- Ans 1. E
 2. B
 3. D
 4. A

Question ID : 26433068282

Status : Answered

Chosen Option : 3

Q.19 किस विकल्प में निम्नलिखित शब्दों का वह क्रम दिया गया है, जिस क्रम में वे अंग्रेजी शब्दकोश में आते हैं?

- 1 Magical
- 2 Magnificent
- 3 Marble
- 4 Marvellous
- 5 Marigold

- Ans 1. 1,2,3,5,4
 2. 1,2,3,4,5
 3. 1,3,2,4,5
 4. 1,4,3,2,5

Question ID : 26433069281

Status : Answered

Chosen Option : 1

Q.20 उस विकल्प का चयन करें, जो पाँचवीं संख्या से उसी प्रकार संबंधित है, जिस प्रकार दूसरी संख्या, पहली संख्या से संबंधित है और चौथी संख्या, तीसरी संख्या से संबंधित है।

20 : 2 :: 42 : 4 :: 72 : ?

- Ans 1. 6
 2. 10
 3. 8
 4. 14

Question ID : 26433069409

Status : Not Answered

Chosen Option : --

Q.1 विशु एक _____ पर्व है, जो मुख्य रूप से भारत के दक्षिणी भाग में मनाया जाता है।

- Ans
- 1. जैन
 - 2. बौद्ध
 - 3. हिंदू
 - 4. पारसी

Question ID : 26433094883

Status : Answered

Chosen Option : 4

Q.2 1 जुलाई, 2017 को जब एक राष्ट्रीय जीएसटी ने केंद्रीय करों को समाहित कर लिया, तब कितनी पेट्रोलियम वस्तुओं को फिलहाल इसके दायरे से बाहर रखा गया था?

- Ans
- 1. छह
 - 2. पांच
 - 3. तीन
 - 4. चार

Question ID : 264330116215

Status : Not Answered

Chosen Option : --

Q.3 नवंबर 2022 तक की स्थिति के अनुसार, निम्नलिखित में से कौन झारखंड, भारत के मुख्यमंत्री हैं?

- Ans
- 1. अमित शाह
 - 2. पंकज मिश्रा
 - 3. हेमंत सोरेन
 - 4. रघुवर दास

Question ID : 264330114912

Status : Answered

Chosen Option : 3

Q.4 निम्नलिखित में से कौन-सा, लू के कारण होता है?

- Ans
- 1. बिवाई (Chilblains)
 - 2. शीतदंश
 - 3. अल्पताप
 - 4. ताप घात (Heat Stroke)

Question ID : 264330115977

Status : Answered

Chosen Option : 4

Q.5 1994 में परमश्रेष्ठ शंकर दयाल शर्मा द्वारा प्रस्तुत नाट्य विशारद _____ को दिया गया था।

- Ans
- 1. जी पद्मजा रेड्डी
 - 2. अनुराधा पाण्डेय
 - 3. शोभना नारायण
 - 4. सुनंदा नायर

Question ID : 264330115869

Status : Not Answered

Chosen Option : --

Q.6 बागानी खेती (plantation farming) में क्या होता है?

- Ans
- 1. केवल दो फसलें उगाई जाती हैं
 - 2. अनेक फसलें उगाई जाती हैं
 - 3. फसल चक्रण किया जाता है
 - 4. एकल फसल उगाई जाती है

Question ID : 264330115522

Status : Not Attempted and
Marked For Review

Chosen Option : --

Q.7 भारत के 36वें राष्ट्रीय खेलों के लोगो में _____ का चित्र है।

- Ans
- 1. बाघ
 - 2. ज़ेबरा
 - 3. शेर
 - 4. घोड़ा

Question ID : 264330116283

Status : Not Answered

Chosen Option : --

Q.8 भारत में ग्रामीण रोजगार सृजन कार्यक्रम किस वर्ष में शुरू किया गया था?

- Ans
- 1. 1997
 - 2. 1995
 - 3. 2000
 - 4. 2004

Question ID : 264330116069

Status : Not Answered

Chosen Option : --

Q.9 फ्लाइंग सिख, मिल्खा सिंह निम्नलिखित में से किन खेलों में स्वर्ण पदक जीतने वाले पहले भारतीय थे?

- Ans
- 1. चैम्पियनशिप सीरीज़
 - 2. राष्ट्रमंडल खेल
 - 3. एशियाई खेल
 - 4. शीतकालीन ओलंपिक

Question ID : 26433089920

Status : Answered

Chosen Option : 2

Q.10 1990-91 और 1991-92 (_____ पंचवर्षीय योजनाओं के बीच) में, भारत में दो वार्षिक कार्यक्रम लागू किए गए थे।

- Ans
- 1. तीसरी और चौथी
 - 2. पहली और दूसरी
 - 3. सातवीं और आठवीं
 - 4. पांचवीं और छठी

Question ID : 264330115378

Status : Answered

Chosen Option : 3

Q.11 मोहिनीअट्टम नृत्य में _____ हस्तमुद्राओं का उपयोग किया जाता है, जिन्हें 'हस्तलक्षण दीपिका' ग्रंथ से लिया गया है।

- Ans
- 1. 28
 - 2. 24
 - 3. 20
 - 4. 18

Question ID : 264330115061

Status : Not Answered

Chosen Option : --

Q.12 भारत के दूसरे चीफ ऑफ डिफेंस स्टाफ के रूप में किसे नियुक्त किया गया है?

- Ans
- 1. लेफ्टिनेंट जनरल अनिल चौहान
 - 2. जनरल मनोज मुकुंद नरवणे
 - 3. जनरल मनोज पांडे
 - 4. लेफ्टिनेंट जनरल बग्गावल्ली सोमशेखर राजू

Question ID : 264330114978

Status : Answered

Chosen Option : 2

Q.13 परिपथ में विद्युत धारा को _____ द्वारा मापा जाता है।

- Ans
- 1. ओडोमीटर
 - 2. एमीटर
 - 3. विभवमापी
 - 4. वोल्टमीटर

Question ID : 26433089645
Status : Answered
Chosen Option : 2

Q.14 फा-शिएन ने _____ से अपनी घर वापसी यात्रा शुरू की

- Ans
- 1. तिबत
 - 2. पाटलिपुत्र
 - 3. मदुरई
 - 4. बंगाल

Question ID : 264330115450
Status : Not Answered
Chosen Option : --

Q.15 भारत में 'हरित क्रांति' की शुरुआत मुख्य रूप से _____ में हुई थी।

- Ans
- 1. 1980's
 - 2. 1950's
 - 3. 1960's
 - 4. 1970's

Question ID : 264330116149
Status : Answered
Chosen Option : 3

Q.16 संसद _____ से मिलकर बनती है।

- (i) राष्ट्रपति
- (ii) राज्यसभा
- (iii) लोकसभा

- Ans
- 1. (i), (ii) और (iii)
 - 2. (i) और (iii) दोनों
 - 3. केवल (i)
 - 4. (ii) और (iii) दोनों

Question ID : 26433089914
Status : Answered
Chosen Option : 1

Q.17 संसद के समक्ष बजट विवरण प्रस्तुत करने की संवैधानिक आवश्यकता भारत के संविधान के अनुच्छेद _____ में दी गई है।

- Ans
- 1. 121
 - 2. 123
 - 3. 112
 - 4. 12

Question ID : 264330115275
Status : Not Answered
Chosen Option : --

Q.18 एक खाद्य श्रृंखला में, हम कह सकते हैं की प्रत्येक स्तर पर उपलब्ध कार्बनिक पदार्थ की मात्रा का औसतन _____ ही उपभोक्ताओं के अगले स्तर तक पहुंचता है।

- Ans
- 1. 10%
 - 2. 1%
 - 3. 0.01%
 - 4. 0.1%

Question ID : 264330115197
Status : Not Answered
Chosen Option : --

Q.19 1986 में, स्वर्ण मंदिर में आतंकियों के खिलाफ एक ऑपरेशन चलाना पड़ा था। इस ऑपरेशन का नाम क्या था?

- Ans
- 1. ऑपरेशन ब्लैक थंडर
 - 2. ऑपरेशन थंडर
 - 3. ऑपरेशन रेन एंड थंडर
 - 4. ऑपरेशन लाइटनिंग थंडर

Question ID : 264330115684
Status : Answered
Chosen Option : 4

Q.20 भारतीय संविधान की किस अनुसूची में भारतीय गणराज्य की भाषाएं शामिल हैं?

- Ans
- 1. 9
 - 2. 6
 - 3. 8
 - 4. 7

Question ID : 264330115610
Status : Not Attempted and Marked For Review
Chosen Option : --

Q.1 एक त्रिभुज की भुजाएँ 5 cm, 12 cm और 13 cm हैं। त्रिभुज की भुजाओं के मध्य-बिंदुओं को मिलाने से बने त्रिभुज का क्षेत्रफल (cm^2 में) ज्ञात कीजिए।

- Ans
- 1. 15 cm^2
 - 2. 21.5 cm^2
 - 3. 30 cm^2
 - 4. 7.5 cm^2

Question ID : 26433087404

Status : Answered

Chosen Option : 3

Q.2 एक 100 मीटर की दौड़ में A, B को 20 m से, और B, C को 10 m से हरा सकता है। उसी दौड़ में, A, C को _____ से हरा सकता है।

- Ans
- 1. 30 m
 - 2. 26 m
 - 3. 28 m
 - 4. 20 m

Question ID : 26433073043

Status : Answered

Chosen Option : 1

Q.3 एक बल्लेबाज ने अपनी 5 पारियों में 50, 56, 42, 38 और 78 रन बनाए। उसे 60 का औसत प्राप्त करने के लिए अपनी 6ठी पारी में कितना स्कोर करने की आवश्यकता है?

- Ans
- 1. 90
 - 2. 106
 - 3. 96
 - 4. 100

Question ID : 264330116682

Status : Answered

Chosen Option : 3

Q.4 एक बंद बेलन का आधार व्यास 20 cm है और इसकी ऊँचाई 11 cm है। बेलन का कुल पृष्ठीय क्षेत्रफल ज्ञात कीजिए। (मान लीजिए $\pi=22/7$)

- Ans
- 1. 1330 cm^2
 - 2. 1320 cm^2
 - 3. 1325 cm^2
 - 4. 1315 cm^2

Question ID : 26433076311

Status : Answered

Chosen Option : 2

Q.5 $3^5 + 3^6 + 3^7 + 3^8$ पूर्णतः _____ से विभाज्य है।

- Ans 1. 10
 2. 11
 3. 14
 4. 17

Question ID : 26433076301
Status : Answered
Chosen Option : 1

Q.6 प्रेम एक कार्य को 112 दिनों में कर सकता है। बेन यह कार्य 90 दिनों में कर सकता है। प्रेम ने अकेले कार्य शुरू किया। कितने दिनों के बाद बेन को उसके साथ जुड़ना चाहिए, ताकि कुल कार्य 56 दिनों में समाप्त हो जाए?

- Ans 1. 8 दिन
 2. 7 दिन
 3. 10 दिन
 4. 11 दिन

Question ID : 264330116899
Status : Answered
Chosen Option : 4

Q.7 जब पहली संख्या का 20% दूसरी संख्या में जोड़ा जाता है, तो दूसरी संख्या 50% बढ़ जाती है। पहली संख्या का दूसरी संख्या से अनुपात ज्ञात करें।

- Ans 1. 5 : 2
 2. 3 : 5
 3. 2 : 5
 4. 5 : 3

Question ID : 26433073126
Status : Answered
Chosen Option : 1

Q.8 आलू की प्रति किलोग्राम दर Rs.18 से बढ़कर Rs.25 हो गई है। आलू के उपयोग में कितने प्रतिशत की कमी की जाए, ताकि खर्च न बढ़े?

- Ans 1. 34%
 2. 22%
 3. 31%
 4. 28%

Question ID : 26433075846
Status : Answered
Chosen Option : 4

Q.9 संख्या 10,16 और 20 का चतुर्थ समानुपाती क्या होगा?

Ans 1. 32

2. 24

3. 30

4. 28

Question ID : 26433075670

Status : Answered

Chosen Option : 1

Q.10 यदि पुस्तक का अंकित मूल्य 500 रुपए है और इसे 400 रुपए में बेचा गया है तो छूट ज्ञात करें।

Ans 1. 50 रुपए

2. 100 रुपए

3. 60 रुपए

4. 200 रुपए

Question ID : 264330116714

Status : Answered

Chosen Option : 2

Q.11 एक संख्या के मान में 5 प्रतिशत की वृद्धि और एक संख्या के मान में 15 प्रतिशत की कमी होने के बीच का अंतर 9 है। मूल संख्या क्या है?

Ans 1. 55

2. 45

3. 30

4. 60

Question ID : 264330116819

Status : Answered

Chosen Option : 2

Q.12 $\frac{(0.0002)^2 + (0.0033)^2 + (0.0444)^2}{(0.00002)^2 + (0.00033)^2 + (0.00444)^2}$ का मान ज्ञात कीजिए।

Ans 1. 110

2. 90

3. 100

4. 80

Question ID : 26433091983

Status : Not Attempted and Marked For Review

Chosen Option : --

Q.13 एक स्कूल में दसवीं कक्षा के चार सेक्शन हैं: A, B, C और D। प्रत्येक सेक्शन में 30 विद्यार्थी हैं। चारों सेक्शन का गणित में औसत अंक क्रमशः 89.8, 92.6, 99.1 और 94.5 है। उस स्कूल की पूरी दसवीं कक्षा का गणित में औसत अंक ज्ञात करें।

- Ans 1. 94.0
 2. 95.0
 3. 96.8
 4. 92.5

Question ID : 26433075097

Status : Answered

Chosen Option : 1

Q.14 एक वस्तु क्रमिक छूट की दो योजनाओं 25% और उसके बाद 30%, तथा 25% और उसके बाद 20%, में उपलब्ध है, दोनों योजनाओं के विक्रय मूल्य के बीच का अंतर ₹75 है। वस्तु का अंकित मूल्य (₹ में) ज्ञात करें।

- Ans 1. 900
 2. 1000
 3. 1500
 4. 1200

Question ID : 26433081570

Status : Answered

Chosen Option : 2

Q.15 R पहले घंटे, दूसरे घंटे, और इसी तरह 10 घंटे तक, क्रमशः 10 km/h, 9 km/h, ..., 1 km/h की चाल से चलता है। उसकी औसत चाल _____ km/h है।

- Ans 1. 6
 2. 5.5
 3. 5
 4. 4.5

Question ID : 26433071261

Status : Answered

Chosen Option : 2

Q.16 एक कंपनी में एक मशीन के मूल्य में हर साल 10% मूल्यहास हो जाता है। यदि वर्तमान मूल्य Rs. 2 लाख है तो 2 साल बाद मशीन का मूल्य (Rs. में) ज्ञात कीजिए।

- Ans 1. 1,62,000
 2. 1,64,000
 3. 1,60,000
 4. 1,80,000

Question ID : 26433071331

Status : Answered

Chosen Option : 1

Q.17 Rs.25,000 पर 2 वर्षों में देय राशि क्या होगी जब क्रमिक वर्षों में ब्याज दर क्रमशः 12% और 10% प्रतिवर्ष है (ब्याज का संयोजन वार्षिक रूप से किया जाता है)?

- Ans
- 1. Rs.28,000
 - 2. Rs.33,800
 - 3. Rs.27,800
 - 4. Rs.30,800

Question ID : 26433072971

Status : Answered

Chosen Option : 4

Q.18 अजय एक काम को 20 दिनों में कर सकता है और विजय उसी काम को 22 दिनों में कर सकता है। यदि वे एकांतर दिनों में कार्य करते हैं और विजय द्वारा कार्य प्रारंभ किया जाता है, तो वे एक साथ कार्य को कितने दिनों में पूरा करेंगे?

- Ans
- 1. 20
 - 2. 24
 - 3. 21
 - 4. 22

Question ID : 26433075956

Status : Answered

Chosen Option : 3

Q.19 एक घड़ी को 25% की हानि पर Rs.15,000 में बेचा जाता है। घड़ी का क्रय मूल्य क्या है?

- Ans
- 1. Rs.18,500
 - 2. Rs.18,000
 - 3. Rs.16,000
 - 4. Rs.20,000

Question ID : 26433073084

Status : Answered

Chosen Option : 4

Q.20 एक खराब मशीन 900 g वजन को 1000 g दर्शाती है। एक दुकानदार इस वजन मापने की मशीन का उपयोग 45 kg चावल Rs.65 प्रति kg पर बेचने के लिए करता है, जिसे उसने Rs.58 प्रति kg पर खरीदा था। उसका कुल लाभ प्रतिशत लगभग किसके बराबर है:

- Ans
- 1. 18.9%
 - 2. 24.5%
 - 3. 23.8%
 - 4. 22.6%

Question ID : 26433075315

Status : Answered

Chosen Option : 2

Q.1 Select the option in which all the words are spelt correctly.

- Ans 1. Our school principal declared that the new rule was aplicable to everyone.
 2. Our school principal declared that the new rule was applicable to everyone.
 3. Our school principal declared that the new rule was appleecable to everyone.
 4. Our school principal declared that the new rule was applikable to everyone.

Question ID : 26433072286
Status : Not Answered
Chosen Option : --

Q.2 Select the most appropriate synonym of the given word.

Amputate

- Ans 1. Energise
 2. Argue
 3. Sever
 4. Brighten

Question ID : 26433073463
Status : Not Answered
Chosen Option : --

Q.3 Select the most appropriate meaning of the given idiom.

Once in a blue moon

- Ans 1. To agree reluctantly
 2. Very rarely
 3. Moon in the night
 4. A quick response

Question ID : 26433073705
Status : Not Answered
Chosen Option : --

Q.4 Select the most appropriate ANTONYM of the given word.

Rival

- Ans 1. Antagonist
 2. Comrade
 3. Employer
 4. Opponent

Question ID : 26433072206
Status : Not Answered
Chosen Option : --

Q.5 Select the most appropriate ANTONYM of the given word.

Influence

- Ans
- 1. Effect
 - 2. Stir
 - 3. Deter
 - 4. Impact

Question ID : 26433085199
Status : Not Answered
Chosen Option : --

Q.6 Select the most appropriate ANTONYM of the underlined word to fill in the blank.

The servile nature of the employees was contrary to the employer's _____ nature.

- Ans
- 1. dishonest
 - 2. curious
 - 3. furious
 - 4. dominant

Question ID : 26433091847
Status : Not Answered
Chosen Option : --

Q.7 Select the most appropriate synonym of the word given in brackets to fill in the blank.

His best friend _____ (disclose) his business secrets in the press conference.

- Ans
- 1. deceived
 - 2. concealed
 - 3. revealed
 - 4. superseded

Question ID : 26433084720
Status : Not Answered
Chosen Option : --

Q.8 Select the most appropriate option that can substitute the underlined segment in the given sentence.

After studying the evidence thoroughly, the detective inferred the motive.

- Ans
- 1. logically concluded
 - 2. unusually concealed
 - 3. intensely disliked
 - 4. violently criticised

Question ID : 26433099878
Status : Not Answered
Chosen Option : --

Q.9 Parts of the given sentence have been given as options. One of them contains a spelling error. Select the option that rectifies the error.

Superbugs are the bacteria that have acquired resistance to several types of antibiotics either through genetic mutation or through buildup resistance over time.

- Ans
- 1. resistance
 - 2. acquired
 - 3. mutattion
 - 4. bactaria

Question ID : 26433072043
Status : Not Answered
Chosen Option : --

Q.10 Select the most appropriate option to fill in the blank.

Due to some technical emergency, the helicopter was supposed to land on a _____ (occupied) piece of land.

- Ans
- 1. active
 - 2. jammed
 - 3. teeming
 - 4. vacant

Question ID : 26433060719
Status : Not Answered
Chosen Option : --

Q.11 Select the word similar in meaning to the given word.

Skip

- Ans
- 1. Notice
 - 2. Insert
 - 3. Overlook
 - 4. Introduce

Question ID : 26433088862
Status : Not Answered
Chosen Option : --

Q.12 The following sentence has been split into four segments. Identify the segment that contains a grammatical error.

The policeman / walk along the / road when I saw / a body in the gutter.

- Ans
- 1. a body in the gutter
 - 2. road when I saw
 - 3. walk along the
 - 4. The policeman

Question ID : 26433092276
Status : Not Answered
Chosen Option : --

Q.13 Select the most appropriate meaning of the underlined idiom in the given sentence.

If the linguistic minority refuses to vote, it may rock the boat.

- Ans
- 1. Restore the equilibrium
 - 2. Topple the government
 - 3. Lead to protests
 - 4. Upset the balance

Question ID : 26433071995
Status : Not Answered
Chosen Option : --

Q.14 Select the most appropriate option that can substitute the underlined segment in the given sentence.

My dad asked my mom to prepare lunch early as he was feeling very hungry.

- Ans
- 1. starved
 - 2. exhausted
 - 3. terrible
 - 4. tired

Question ID : 26433086459
Status : Not Answered
Chosen Option : --

Q.15 Select the most appropriate option to fill in the blank.

One should never _____ from pals or activities that formerly provided solace.

- Ans
- 1. withdraw
 - 2. suspend
 - 3. remove
 - 4. deduct

Question ID : 26433073617
Status : Not Answered
Chosen Option : --

Comprehension:

In the following passage, some words have been deleted. Read the passage carefully and select the most appropriate option to fill in each blank.

One of the (1) _____ that Elizabeth had to attend was ballet, and she loathed it. She would stuff (2) _____ into her pink tut, and stare at her (3) _____ in the mirror and try to tell herself that she was not made for dance. But the truth was (4) _____ for her to see. She was having two left feet. She (5) _____ never be a ballet dancer.

SubQuestion No : 16

Q.16 Select the most appropriate option to fill in blank number 1.

- Ans 1. lectures
 2. classes
 3. Meetings
 4. Seminars

Question ID : 26433071904

Status : Not Answered

Chosen Option : --

Comprehension:

In the following passage, some words have been deleted. Read the passage carefully and select the most appropriate option to fill in each blank.

One of the (1) _____ that Elizabeth had to attend was ballet, and she loathed it. She would stuff (2) _____ into her pink tut, and stare at her (3) _____ in the mirror and try to tell herself that she was not made for dance. But the truth was (4) _____ for her to see. She was having two left feet. She (5) _____ never be a ballet dancer.

SubQuestion No : 17

Q.17 Select the most appropriate option to fill in blank number 2.

- Ans 1. himself
 2. oneself
 3. herself
 4. Ourselves

Question ID : 26433071905

Status : Not Answered

Chosen Option : --

Comprehension:

In the following passage, some words have been deleted. Read the passage carefully and select the most appropriate option to fill in each blank.

One of the (1) _____ that Elizabeth had to attend was ballet, and she loathed it. She would stuff (2) _____ into her pink tut, and stare at her (3) _____ in the mirror and try to tell herself that she was not made for dance. But the truth was (4) _____ for her to see. She was having two left feet. She (5) _____ never be a ballet dancer.

SubQuestion No : 18

Q.18 Select the most appropriate option to fill in blank number 3.

- Ans
- 1. Sketch
 - 2. Painting
 - 3. photograph
 - 4. image

Question ID : 26433071906

Status : Not Answered

Chosen Option : --

Comprehension:

In the following passage, some words have been deleted. Read the passage carefully and select the most appropriate option to fill in each blank.

One of the (1) _____ that Elizabeth had to attend was ballet, and she loathed it. She would stuff (2) _____ into her pink tut, and stare at her (3) _____ in the mirror and try to tell herself that she was not made for dance. But the truth was (4) _____ for her to see. She was having two left feet. She (5) _____ never be a ballet dancer.

SubQuestion No : 19

Q.19 Select the most appropriate option to fill in blank number 4.

- Ans
- 1. Here
 - 2. their
 - 3. Therein
 - 4. there

Question ID : 26433071907

Status : Not Answered

Chosen Option : --

Comprehension:

In the following passage, some words have been deleted. Read the passage carefully and select the most appropriate option to fill in each blank.

One of the (1) _____ that Elizabeth had to attend was ballet, and she loathed it. She would stuff (2) _____ into her pink tut, and stare at her (3) _____ in the mirror and try to tell herself that she was not made for dance. But the truth was (4) _____ for her to see. She was having two left feet. She (5) _____ never be a ballet dancer.

SubQuestion No : 20

Q.20 Select the most appropriate option to fill in blank number 5.

- Ans
- 1. can't
 - 2. won't
 - 3. would
 - 4. Ever

Question ID : 26433071908

Status : Not Answered

Chosen Option : --

Section : Part-D-Hindi

Q.1 निम्न में से 'सरस्वती' का पर्याय नहीं है-

- Ans
- 1. दामिनी
 - 2. भारती
 - 3. शारदा
 - 4. वागेश्वरी

Question ID : 26433062158

Status : Answered

Chosen Option : 4

Q.2 निम्न में से किस वाक्य में 'खग' के सही अनेकार्थी शब्द का प्रयोग हुआ है?

- Ans
- 1. किशोर दुष्ट लड़का है।
 - 2. वह बहुत बड़ा डाकू था।
 - 3. पक्षी कलरव कर रहे हैं।
 - 4. सुहास की भाषा अत्यंत दुर्बोध है।

Question ID : 26433085145

Status : Answered

Chosen Option : 3

Q.3 निम्न वाक्य में रेखांकित अंश के स्थान पर आने वाले सबसे उपयुक्त विकल्प का चयन कीजिए।
इस गीत की दो चार लड़ियाँ सुना दो।

- Ans
- 1. लाईन
 - 2. शब्द
 - 3. कड़ियाँ
 - 4. कविता

Question ID : 26433066867

Status : Answered

Chosen Option : 3

Q.4 निम्नलिखित वाक्य के किस भाग में त्रुटि है?
'मेरी समझ में नहीं आ रहा है कि आपके द्वारा इतने परिश्रम से कमाया गया यह धन अखिर किस काम में आएगा।'

- Ans
- 1. कमाया गया यह धन
 - 2. मेरी समझ में नहीं आ रहा है
 - 3. अखिर किस काम में आएगा।
 - 4. कि आपके द्वारा इतने परिश्रम से

Question ID : 26433063024

Status : Answered

Chosen Option : 1

Q.5 निम्नलिखित वाक्यांश के लिए उपयुक्त सार्थक शब्द का चयन विकल्पों में से कीजिए।
वह बात जिसे सुना नहीं गया हो

- Ans
- 1. सुना
 - 2. नासुना
 - 3. सुनासुना
 - 4. अनसुनी

Question ID : 26433073313

Status : Answered

Chosen Option : 4

Q.6 निम्न वाक्य के रिक्त स्थान की पूर्ति कोष्ठक में दिए गए शब्द के विकल्पों में दिए गए सही विलोम शब्द से कीजिए।
समुद्र का विस्तार _____ है। (ससीम)

- Ans
- 1. सीमा
 - 2. अवलंबित
 - 3. असीम
 - 4. अवशेष

Question ID : 26433085178

Status : Answered

Chosen Option : 3

Q.7 निम्न वाक्य को अधिकरण कारक के अनुसार शुद्ध कीजिए।
कपड़े छत को सूख रहे हैं।

- Ans
- 1. कपड़े छत के सूख रहे हैं।
 - 2. कपड़े छत से सूख रहे हैं।
 - 3. कपड़े छत के अनुसार सूख रहे हैं।
 - 4. कपड़े छत पर सूख रहे हैं।

Question ID : 26433063034

Status : Answered

Chosen Option : 4

Q.8 निम्नलिखित वाक्य में रेखांकित एकार्थी शब्दों के अर्थ बताइए।
व्यक्ति के जीवन में 'शम' होनी चाहिए और उसके व्यवहार में 'सम' होना अति आवश्यक है।

- Ans
- 1. श्याम-रात
 - 2. कुछ-भाग
 - 3. शांति-समान
 - 4. समान-गणित का प्रश्न

Question ID : 26433091329

Status : Answered

Chosen Option : 3

Q.9 निम्नलिखित मुहावरे के सही अर्थ का चयन विकल्पों में से कीजिए।
भूजी भांग न होना

- Ans
- 1. संदेह की स्थिति में होना
 - 2. अत्यंत दरिद्र होना
 - 3. कष्ट झेलना
 - 4. सबसे परे रहना

Question ID : 26433070010

Status : Answered

Chosen Option : 2

Q.10 'भौरे गाते गुनगुन गाना।' विकल्पों में दिया गया कौन सा शब्द उक्त वाक्य में प्रयुक्त 'भौरे' शब्द का पर्यायवाची नहीं है?

- Ans
- 1. अलि
 - 2. मधुप
 - 3. भ्रमर
 - 4. शफरी

Question ID : 26433069736

Status : Answered

Chosen Option : 4

Q.11 'छक्के छुड़ाना' मुहावरे का अर्थ क्या है?

- Ans
- 1. काम आसान करना
 - 2. मैच में छक्का लगाना
 - 3. बुरी तरह हराना
 - 4. बहुत मेहनत करना

Question ID : 26433066805

Status : Answered

Chosen Option : 3

Q.12 निम्नलिखित विकल्पों में से किस एक वाक्य में क्रिया सम्बन्धी अशुद्धि है?

- Ans
- 1. बहुत दिनों बाद आज उसने मुझे देखा।
 - 2. मैं उसे सहायता देना चाहता हूँ।
 - 3. मैंने पानी पी लिया।
 - 4. आज मैंने भरपेट खाया।

Question ID : 26433062946

Status : Answered

Chosen Option : 4

Q.13 संयुक्त वाक्य - 'शिक्षा साध्य नहीं है, साधन है।' निम्नलिखित विकल्पों में से इस वाक्य के लिए कौन सा एक उचित सरल वाक्य होगा?

- Ans
- 1. शिक्षा एक साधन है।
 - 2. शिक्षा साध्य न होकर साधन है।
 - 3. शिक्षा माध्यम नहीं साधन है।
 - 4. शिक्षा साधन है।

Question ID : 26433062443

Status : Answered

Chosen Option : 2

Q.14 निम्नलिखित वाक्यांश के लिए सार्थक शब्द चुनिए।
आवश्यकता से अधिक बरसात

- Ans
- 1. अतिक्रमण
 - 2. अतिवृष्टि
 - 3. अल्पवृष्टि
 - 4. अनावृष्टि

Question ID : 26433069980

Status : Answered

Chosen Option : 2

Q.15 निम्नलिखित वाक्य के किस शब्द में अशुद्धि है?
इसी कारण देश में अशांती बढ़ रही है।

- Ans 1. अशांती
 2. बढ़
 3. देश
 4. कारण

Question ID : 26433066768

Status : Answered

Chosen Option : 1

Comprehension:

निम्नलिखित गद्यांश में कुछ शब्दों को हटा दिया गया है। दिए गए विकल्पों की सहायता से रिक्त स्थानों की पूर्ति कीजिए। प्रत्येक संख्या के लिए सबसे उपयुक्त विकल्प का चयन कीजिए।
वर्तमान युग विज्ञान का युग है। वैज्ञानिक 1. _____ ने हमारे जीवन को सुखी बनाया है। वहीं दूसरी ओर समाज के सम्मुख अनेक समस्याएं भी 2. _____ की हैं। इनमें प्रदूषण की समस्या अत्यंत 3. _____ है। इसका अर्थ है 4. _____ का दूषित होना। वस्तुतः हम सभी प्रकृति के संतुलन में 5. _____ व्यतीत करते हैं।

SubQuestion No : 16

Q.16 रिक्त स्थान 1 की पूर्ति के लिए सबसे उपयुक्त विकल्प का चयन कीजिए।

- Ans 1. आविष्कारों
 2. असंतुलन
 3. समस्या
 4. तिरस्कारों

Question ID : 264330110969

Status : Answered

Chosen Option : 1

Comprehension:

निम्नलिखित गद्यांश में कुछ शब्दों को हटा दिया गया है। दिए गए विकल्पों की सहायता से रिक्त स्थानों की पूर्ति कीजिए। प्रत्येक संख्या के लिए सबसे उपयुक्त विकल्प का चयन कीजिए।
वर्तमान युग विज्ञान का युग है। वैज्ञानिक 1. _____ ने हमारे जीवन को सुखी बनाया है। वहीं दूसरी ओर समाज के सम्मुख अनेक समस्याएं भी 2. _____ की हैं। इनमें प्रदूषण की समस्या अत्यंत 3. _____ है। इसका अर्थ है 4. _____ का दूषित होना। वस्तुतः हम सभी प्रकृति के संतुलन में 5. _____ व्यतीत करते हैं।

SubQuestion No : 17

Q.17 रिक्त स्थान 2 की पूर्ति के लिए सबसे उपयुक्त विकल्प का चयन कीजिए।

- Ans 1. बढ़ते
 2. त्रस्त
 3. परीक्षण
 4. उत्पन्न

Question ID : 264330110970

Status : Answered

Chosen Option : 4

Comprehension:

निम्नलिखित गद्यांश में कुछ शब्दों को हटा दिया गया है। दिए गए विकल्पों की सहायता से रिक्त स्थानों की पूर्ति कीजिए। प्रत्येक संख्या के लिए सबसे उपयुक्त विकल्प का चयन कीजिए।
वर्तमान युग विज्ञान का युग है। वैज्ञानिक 1. _____ ने हमारे जीवन को सुखी बनाया है। वहीं दूसरी ओर समाज के सम्मुख अनेक समस्याएं भी 2. _____ की हैं। इनमें प्रदूषण की समस्या अत्यंत 3. _____ है। इसका अर्थ है 4. _____ का दूषित होना। वस्तुतः हम सभी प्रकृति के संतुलन में 5. _____ व्यतीत करते हैं।

SubQuestion No : 18

Q.18 रिक्त स्थान 3 की पूर्ति के लिए सबसे उपयुक्त विकल्प का चयन कीजिए।

- Ans
- 1. व्यवस्थित
 - 2. प्रभावित
 - 3. तात्पर्य
 - 4. गंभीर

Question ID : 264330110971

Status : Answered

Chosen Option : 4

Comprehension:

निम्नलिखित गद्यांश में कुछ शब्दों को हटा दिया गया है। दिए गए विकल्पों की सहायता से रिक्त स्थानों की पूर्ति कीजिए। प्रत्येक संख्या के लिए सबसे उपयुक्त विकल्प का चयन कीजिए।
वर्तमान युग विज्ञान का युग है। वैज्ञानिक 1. _____ ने हमारे जीवन को सुखी बनाया है। वहीं दूसरी ओर समाज के सम्मुख अनेक समस्याएं भी 2. _____ की हैं। इनमें प्रदूषण की समस्या अत्यंत 3. _____ है। इसका अर्थ है 4. _____ का दूषित होना। वस्तुतः हम सभी प्रकृति के संतुलन में 5. _____ व्यतीत करते हैं।

SubQuestion No : 19

Q.19 रिक्त स्थान 4 की पूर्ति के लिए सबसे उपयुक्त विकल्प का चयन कीजिए।

- Ans
- 1. वातावरण
 - 2. जीवन
 - 3. कारखानों
 - 4. नगरों

Question ID : 264330110972

Status : Answered

Chosen Option : 1

Comprehension:

निम्नलिखित गद्यांश में कुछ शब्दों को हटा दिया गया है। दिए गए विकल्पों की सहायता से रिक्त स्थानों की पूर्ति कीजिए। प्रत्येक संख्या के लिए सबसे उपयुक्त विकल्प का चयन कीजिए।
वर्तमान युग विज्ञान का युग है। वैज्ञानिक 1. _____ ने हमारे जीवन को सुखी बनाया है। वहीं दूसरी ओर समाज के सम्मुख अनेक समस्याएं भी 2. _____ की हैं। इनमें प्रदूषण की समस्या अत्यंत 3. _____ है। इसका अर्थ है 4. _____ का दूषित होना। वस्तुतः हम सभी प्रकृति के संतुलन में 5. _____ व्यतीत करते हैं।

SubQuestion No : 20

Q.20 रिक्त स्थान 5 की पूर्ति के लिए सबसे उपयुक्त विकल्प का चयन कीजिए।

Ans 1. जीवन

2. सुख

3. सुख-साधन

4. युग

Question ID : 264330110973

Status : Answered

Chosen Option : 1

KD Job Updates

Constable GD in CAPFs SSF Rifleman GD in Assam Rifles and Sepoy in NCB Examination 2022

Roll Number	KD Job Updates
Candidate Name	KD Job Updates
Venue Name	iON Digital Zone iDZ Kanti
Exam Date	08/02/2023
Exam Time	5:15 PM - 6:15 PM
Subject	Constable GD Examination 2022

Section : Part-A-General Intelligence and Reasoning

Q.1 निम्नलिखित में से कौन-सी संख्या दी गई श्रृंखला में प्रश्न-चिह्न (?) के स्थान पर आएगी?
5, 11, 35, 143, ?

- Ans
- 1. 316
 - 2. 719
 - 3. 639
 - 4. 512

Question ID : 26433082005
Status : Answered
Chosen Option : 2

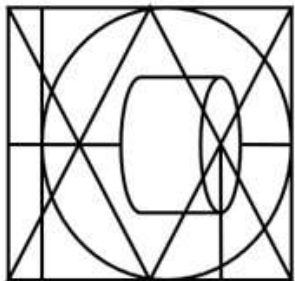
Q.2 दिए गए समीकरण को संतुलित करने के लिए इसके किन दो गणितीय चिह्नों को परस्पर बदलना होगा?
 $25 \times 5 \div 6 + 20 = 62 - 12$

- Ans
- 1. + और ÷
 - 2. ÷ और ×
 - 3. + और -
 - 4. + और ×

Question ID : 26433087048
Status : Answered
Chosen Option : 2

Q.3 उस विकल्प-आकृति का चयन कीजिए, जो प्रस्तुत आकृति में अंतर्निहित है।

(घुमाना अनुमन्य नहीं है)

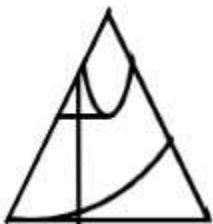


Ans

✓ 1.



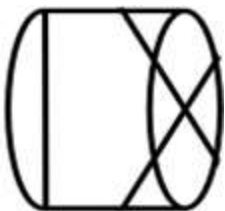
✗ 2.



✗ 3.



✗ 4.



KD Job Updates

Question ID : 26433076581

Status : Answered

Chosen Option : 1

Q.4 A # B का अर्थ है 'A, B का भाई है'
A @ B का अर्थ है 'A, B की पुत्री है'
A & B का अर्थ है 'A, B का पति है'
A % B का अर्थ है 'A, B की पत्नी है'
A * B का अर्थ है 'A, B का पुत्र है'
यदि A&D@Q*B*K है, तो D, K से किस प्रकार संबंधित है?

- Ans
- 1. पोती
 - 2. पोता
 - 3. परपोती
 - 4. पुत्री

Question ID : 26433082534

Status : Answered

Chosen Option : 3

Q.5 नीचे दिए गए समीकरण को गणितीय रूप से सही बनाने के लिए किन दो चिन्हों को परस्पर बदलना चाहिए?
 $64 - 16 \times 24 \div 96 + 10 = 58$

- Ans
- 1. - और +
 - 2. × और -
 - 3. ÷ और ×
 - 4. ÷ और -

Question ID : 264330117544

Status : Answered

Chosen Option : 1

Q.6 तीन कथनों के बाद 1, 2 और 3 से संख्यांकित तीन निष्कर्ष दिए गए हैं। कथनों को सत्य मानते हुए भले ही वे सामान्यतः ज्ञात तथ्यों से भिन्न प्रतीत होते हों, निर्णय लें कि कौन-सा/से निष्कर्ष कथनों का तार्किक रूप से अनुसरण करता है/करते हैं।

कथन:

कुछ बैट बॉल हैं।

कुछ बॉल रिंग हैं।

कोई रिंग बेल नहीं है।

निष्कर्ष:

1. कोई बेल बॉल नहीं है।

2. कोई रिंग बैट नहीं है।

3. कुछ बॉल बैट हैं।

- Ans
- 1. केवल निष्कर्ष 2 अनुसरण करता है
 - 2. केवल निष्कर्ष 3 अनुसरण करता है
 - 3. केवल निष्कर्ष 1 और 2 अनुसरण करते हैं
 - 4. केवल निष्कर्ष 1 और 3 अनुसरण करते हैं

Question ID : 26433087131

Status : Answered

Chosen Option : 2

Q.7 कौन-सा अक्षर-समूह दी गई श्रृंखला में प्रश्नचिह्न (?) के स्थान पर आकर श्रृंखला को पूर्ण करेगा?
YWTZ, UTRY, ?, MNNW, IKLV

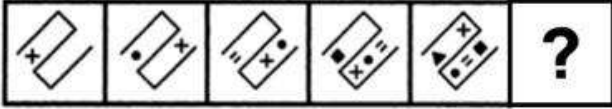
- Ans
- 1. QSRY
 - 2. QRQX
 - 3. PSRY
 - 4. QQPX

Question ID : 26433068577

Status : Answered

Chosen Option : 4

Q.8 दिए गए विकल्पों में से उस आकृति का चयन करें जो निम्नलिखित श्रृंखला में प्रश्नवाचक चिह्न (?) का स्थान ले सकती है।



Ans

- 1.
- 2.
- 3.
- 4.

Question ID : 26433080497

Status : Answered

Chosen Option : 3

Q.9 निम्नलिखित में से कौन-सा अक्षर-समूह दी गई श्रृंखला में प्रश्नचिह्न (?) के स्थान पर आएगा?
DGIL, GJLO, JMOR, ?, PSUX

- Ans
- 1. MPRU
 - 2. MQRU
 - 3. NPQU
 - 4. NPRV

Question ID : 26433076448

Status : Answered

Chosen Option : 1

Q.10 आमिर, बंटी, लेस्ली, प्रदीप, ईशान, फैज, गौरव और हरीश एक वर्गाकार मेज के चारों ओर मेज के केंद्र की ओर मुख करके बैठे हैं। उनमें से कुछ मेज के कोनों पर बैठे हैं, जबकि कुछ मेज की भुजाओं के ठीक मध्य में बैठे हुए हैं। प्रदीप, गौरव के दाईं ओर तीसरे स्थान पर बैठा है। प्रदीप एक कोने पर बैठा है। बंटी, फैज के दाईं ओर दूसरे स्थान पर बैठा है। फैज, किसी भी कोने पर नहीं बैठा है। बंटी, प्रदीप के ठीक बगल में नहीं बैठा है। हरीश, आमिर के ठीक बगल में बैठा है। हरीश मेज की किसी भी भुजा के मध्य में नहीं बैठा है। हरीश और लेस्ली के बीच केवल एक व्यक्ति बैठा है। बंटी के बाईं ओर दूसरे स्थान पर कौन बैठा/बैठी है?

- Ans
- 1. ईशान
 - 2. गौरव
 - 3. प्रदीप
 - 4. फैज

Question ID : 26433082285

Status : Answered

Chosen Option : 2

Q.11 सात व्यक्ति E, F, G, H, I, J और K एक सीधी पंक्ति में उत्तर की ओर मुख करके बैठे हैं। K, H के बाईं ओर तीसरे स्थान पर बैठा है। F और I के बीच कोई नहीं बैठा है। H, J के दाईं ओर चौथे स्थान पर बैठा है। I के दाईं ओर कोई नहीं बैठा है। F, E के दाईं ओर तीसरे स्थान पर बैठा है। पंक्ति के दाएं सिरे से तीसरे स्थान पर कौन बैठा है?

- Ans
- 1. G
 - 2. H
 - 3. I
 - 4. F

Question ID : 26433068284

Status : Answered

Chosen Option : 1

Q.12 एक कूट भाषा में, 'we must stop' को 'po ba hu', 'stop this noise' को 'hu va xi', 'you must come' को 'nu ba ka', और 'you come forward' को 'nu ka co' के रूप में कूटबद्ध किया जाता है। शब्द 'forward' के लिए कूट क्या होगा?

- Ans
- 1. nu
 - 2. po
 - 3. co
 - 4. hu

Question ID : 26433069471

Status : Answered

Chosen Option : 3

Q.13 उस विकल्प का चयन करें, जो पाँचवीं संख्या से उसी प्रकार संबंधित है, जिस प्रकार दूसरी संख्या, पहली संख्या से संबंधित है और चौथी संख्या, तीसरी संख्या से संबंधित है।
49 : 10 :: 81 : 12 :: 64 : ?

Ans 1. 11

2. 9

3. 7

4. 8

Question ID : 26433069411

Status : Answered

Chosen Option : 1

Q.14 उस विकल्प का चयन कीजिए, जो पाँचवें अक्षर-समूह से उसी प्रकार संबंधित है, जिस प्रकार दूसरा अक्षर-समूह पहले अक्षर-समूह से संबंधित है और चौथा अक्षर-समूह तीसरे अक्षर-समूह से संबंधित है।
PRODUCT : CDOPTU :: CONFUSE : CEFNOSU :: QUALITY : ?

Ans 1. AILQTUY

2. AIULQTY

3. AILQUTY

4. ALITQUY

Question ID : 26433082630

Status : Not Answered

Chosen Option : --

Q.15 दी गई आकृति के सही दर्पण प्रतिबिम्ब का चयन करें जब दर्पण को MN पर रखा जाए जैसा कि नीचे दर्शाया गया है।

euRoPEan
M
|
N

Ans 1. nERoPEan

2. eURoPEan

3. nERoPEan

4. eURoPEan

Question ID : 26433085555

Status : Answered

Chosen Option : 1

Q.16 निम्नलिखित में से कौन-सी संख्या दी गई श्रृंखला में प्रश्न-चिह्न (?) को प्रतिस्थापित करेगी?
42, 43, 41, 44, ?, 45

Ans 1. 40

2. 36

3. 45

4. 42

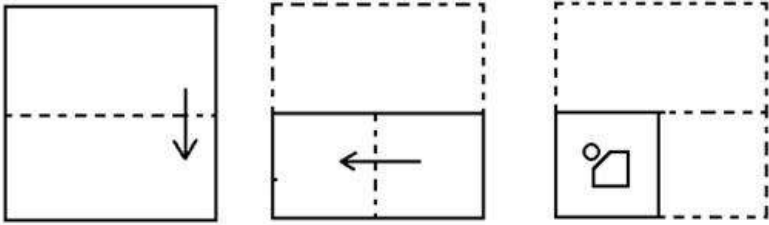
Question ID : 26433083120

Status : Answered

Chosen Option : 1

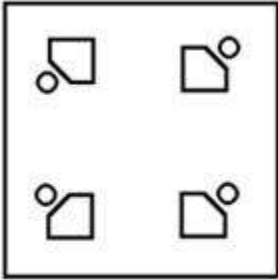
KD Job Updates

Q.17 एक कागज को मोड़ने का क्रम और मुड़े हुए कागज को काटने का तरीका नीचे दर्शाया गया है। उस आकृति का चयन करें जो कागज को खोले जाने पर उसके खुले रूप से सबसे अधिक मिलती-जुलती है।

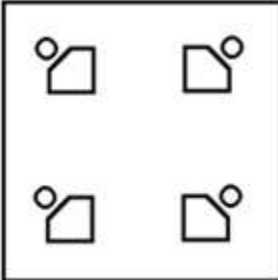


Ans

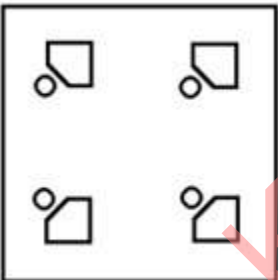
✗ 1.



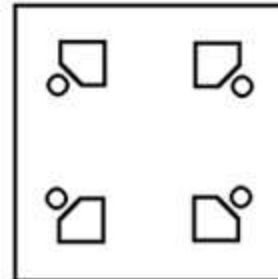
✗ 2.



✗ 3.



✓ 4.



Question ID : 26433087100

Status : Answered

Chosen Option : 4

Q.18 एक निश्चित कूट भाषा में 'EARNED' को '94' के रूप में लिखा जाता है, 'GAINED' को '80' के रूप में लिखा जाता है, तो उसी भाषा में 'DOLLAR' को किस प्रकार से लिखा जाएगा?

- Ans
- 1. 111
 - 2. 68
 - 3. 98
 - 4. 124

Question ID : 26433083114

Status : Answered

Chosen Option : 4

Q.19 उस विकल्प का चयन कीजिए जो तीसरे शब्द से उसी प्रकार संबंधित है जिस प्रकार दूसरा शब्द पहले शब्द से संबंधित है। (शब्दों को अर्थपूर्ण शब्दों के रूप में मानना है और उन्हें शब्द में अक्षरों/व्यंजनों/स्वरों की संख्या के आधार पर एक-दूसरे से संबंधित नहीं करना है।)
वैज्ञानिक : प्रयोगशाला :: खगोल विज्ञानी : ?

- Ans
- 1. पेशा
 - 2. विश्वविद्यालय
 - 3. पर्यावरण
 - 4. वेधशाला

Question ID : 26433067364

Status : Answered

Chosen Option : 3

Q.20 किस विकल्प में निम्नलिखित शब्दों का वह क्रम दिया गया है, जिस क्रम में वे अंग्रेजी शब्दकोश में आते हैं?

- 1 Nothing
- 2 Notebook
- 3 Notable
- 4 Notary
- 5 Nominal

- Ans
- 1. 5,4,3,2,1
 - 2. 5,1,2,3,4
 - 3. 5,3,4,2,1
 - 4. 5,2,3,1,4

Question ID : 26433069320

Status : Answered

Chosen Option : 3

Q.1 हरित क्रांति के पहले चरण में, HYV बीजों का उपयोग अधिक समृद्ध राज्यों तक ही सीमित था। निम्नलिखित में से कौन इस सूची में शामिल नहीं था?

- Ans
- 1. पंजाब
 - 2. आंध्र प्रदेश
 - 3. तमिलनाडु
 - 4. कर्नाटक

Question ID : 264330116151
Status : Answered
Chosen Option : 4

Q.2 भारतीय जनता पार्टी से संबंधित मणिपुर के पहले मुख्यमंत्री कौन बने?

- Ans
- 1. नोंगथोम्बम बीरेन सिंह
 - 2. मनोहर पर्रिकर
 - 3. लोंगजाम थम्बू सिंह
 - 4. ओकराम इबोबी सिंह

Question ID : 264330115034
Status : Answered
Chosen Option : 2

Q.3 'माघी' भारत के निम्नलिखित में से किस त्योहार का एक अन्य नाम है?

- Ans
- 1. मकर संक्रांति
 - 2. बिहु
 - 3. बैसाखी
 - 4. बसंत पंचमी

Question ID : 26433094886
Status : Answered
Chosen Option : 1

Q.4 प्रिंस शुद्धेंद्र नारायण सिंह देव को _____ नृत्य में उनके योगदान के लिए संगीत नाटक अकादमी पुरस्कार से सम्मानित किया गया है।

- Ans
- 1. कथकली
 - 2. मोहिनीअट्टम
 - 3. छऊ
 - 4. कथक

Question ID : 264330115871
Status : Not Answered
Chosen Option : --

Q.5 _____ में, भारतीय संसद ने नागरिकता (संशोधन) अधिनियम (CAA) कानून पारित

किया।

- Ans
- 1. जनवरी 2019
 - 2. जनवरी 2018
 - 3. दिसंबर 2019
 - 4. दिसंबर 2018

Question ID : 264330116217

Status : Answered

Chosen Option : 1

Q.6 भारत में हरित क्रांति किस दशक में आई थी?

- Ans
- 1. 1960-1970
 - 2. 1850-1860
 - 3. 1800-1810
 - 4. 1900-1910

Question ID : 264330115413

Status : Answered

Chosen Option : 1

Q.7 टेलीफोन, सेलुलर टेलीकॉम, पेजर, टेलीफोन एक्सचेंज और रडार किस उद्योग के उदाहरण हैं?

- Ans
- 1. सूचना प्रौद्योगिकी एवं इलेक्ट्रॉनिक्स उद्योग
 - 2. सीमेंट उद्योग
 - 3. ऑटोमोबाइल उद्योग
 - 4. रसायन उद्योग

Question ID : 264330115578

Status : Answered

Chosen Option : 1

Q.8 लैंथेनाइड्स कितने तत्वों की एक श्रृंखला है?

- Ans
- 1. 10
 - 2. 18
 - 3. 15
 - 4. 12

Question ID : 264330115170

Status : Answered

Chosen Option : 2

Q.9 उधम सिंह ने किसकी हत्या की थी?

- Ans
- 1. जॉन साइमन
 - 2. माइकल ओ डायर
 - 3. सिडनी रोलेट
 - 4. रेजिनाल्ड डायर

Question ID : 264330115721

Status : Answered

Chosen Option : 2

Q.10 निम्नलिखित में से कौन-सा चीनी तीर्थयात्री श्वेन त्सांग के लगभग 50 वर्ष बाद भारत आया था?

- Ans
- 1. त्सांग हाय
 - 2. लाओ त्सू
 - 3. फाहियान
 - 4. आई-किंग

Question ID : 26433085223

Status : Not Answered

Chosen Option : --

Q.11 कबड्डी मैच की अवधि कितने मिनट की होती है?

- Ans
- 1. 45 मिनट
 - 2. 50 मिनट
 - 3. 40 मिनट
 - 4. 30 मिनट

Question ID : 264330115931

Status : Answered

Chosen Option : 4

Q.12 निम्नलिखित में से किसने जून 2022 में क्रेडिट लिंक्ड सरकारी योजनाओं के लिए राष्ट्रीय पोर्टल - जन समर्थ पोर्टल लॉन्च किया?

- Ans
- 1. निर्मला सीतारमण
 - 2. नरेन्द्र मोदी
 - 3. स्मृति ईरानी
 - 4. पीयूष गोयल

Question ID : 264330114951

Status : Answered

Chosen Option : 1

Q.13 भारत में स्थित एकमात्र निश्चित रूप से सक्रिय ज्वालामुखी, बैरेन द्वीप ज्वालामुखी, अंडमान द्वीप में _____ से लगभग 138 km उत्तर पूर्व में स्थित है।

- Ans
- 1. दिगलिपुर
 - 2. एबरडीन
 - 3. फेरारगंज
 - 4. पोर्ट ब्लेयर

Question ID : 26433092215

Status : Not Answered

Chosen Option : --

Q.14 निम्नलिखित चार में से तीन पारिस्थितिक पिरामिड हैं, और इस प्रकार एक समूह बनाते हैं। कौन सा इस समूह से संबंधित नहीं है?

- Ans
- 1. ऊर्जा का पिरामिड
 - 2. संस्कृति का पिरामिड
 - 3. बायोमास का पिरामिड
 - 4. संख्या का पिरामिड

Question ID : 264330115247

Status : Answered

Chosen Option : 2

Q.15 _____ देश के विदेशी मुद्रा भंडार का संरक्षक है और उनके निवेश के प्रबंधन की जिम्मेदारी निहित है।

- Ans
- 1. भारतीय स्टेट बैंक
 - 2. वाणिज्य और उद्योग मंत्रालय
 - 3. वित्त मंत्रालय
 - 4. भारतीय रिजर्व बैंक

Question ID : 264330115331

Status : Answered

Chosen Option : 4

Q.16 क्रिकेट मैच में कितने फील्ड अंपायर होते हैं?

- Ans
- 1. 2
 - 2. 1
 - 3. 3
 - 4. 4

Question ID : 264330116285

Status : Answered

Chosen Option : 1

Q.17 महात्मा गांधी राष्ट्रीय ग्रामीण रोजगार गारंटी अधिनियम (MGNREGA) के अनुसार प्रस्तावित नौकरियों का कितना भाग महिलाओं के लिए आरक्षित किया गया है?

- Ans
- 1. एक तिहाई
 - 2. दो तिहाई
 - 3. एक चौथाई
 - 4. आधा

Question ID : 264330116071
Status : Answered
Chosen Option : 1

Q.18 निम्नलिखित में से किसके कार्यकाल के दौरान स्वर्ण सिंह समिति का गठन किया गया था?

- Ans
- 1. मोरारजी देसाई
 - 2. इंदिरा गांधी
 - 3. मनमोहन सिंह
 - 4. वी.पी. सिंह

Question ID : 26433090667
Status : Answered
Chosen Option : 1

Q.19 लोकसभा के अध्यक्ष को कौन चुनता है?

- Ans
- 1. केवल सत्ताधारी दल के लोकसभा के सदस्य
 - 2. लोकसभा के सभी सदस्य
 - 3. भारत के राष्ट्रपति
 - 4. प्रधानमंत्री और उनकी कैबिनेट

Question ID : 26433090677
Status : Answered
Chosen Option : 3

Q.20 पंजाब का कौन सा लोक नृत्य मुख्यतः महिलाओं द्वारा किया जाने वाला नृत्य है?

- Ans
- 1. जवारा
 - 2. दादरा
 - 3. फुगडी
 - 4. गिद्दा

Question ID : 26433074074
Status : Answered
Chosen Option : 4

Q.1 रीता 4 km/h की चाल से P से Q की ओर दौड़ना शुरू करती है। यदि P और Q के बीच की दूरी 6000 मीटर है, तो रीता द्वारा P और Q के बीच की दूरी को तय करने में कितना समय लगेगा?

- Ans
- 1. 1.5 h
 - 2. 2.5 h
 - 3. 2.0 h
 - 4. 1.0 h

Question ID : 26433075697

Status : Answered

Chosen Option : 1

Q.2 शीतल अपनी दुकान पर सभी वस्तुओं पर 20% की छूट प्रदान करती है और फिर भी 12% का लाभ कमाती है। उस वस्तु का अंकित मूल्य क्या है जिसका क्रय मूल्य ₹200 है?

- Ans
- 1. ₹280
 - 2. ₹250
 - 3. ₹220
 - 4. ₹240

Question ID : 26433080107

Status : Answered

Chosen Option : 1

Q.3 Rs.1,225 की राशि पर दो वर्षों का ब्याज Rs.144 है जब ब्याज एक निश्चित ब्याज दर पर वार्षिक रूप से चक्रवृद्धि होता है। वार्षिक ब्याज दर ज्ञात करें।

- Ans
- 1. $5\frac{2}{7}\%$
 - 2. $5\frac{4}{7}\%$
 - 3. $6\frac{2}{7}\%$
 - 4. $5\frac{5}{7}\%$

Question ID : 26433073130

Status : Not Answered

Chosen Option : --

Q.4 7 cm त्रिज्या वाले एक सीसे के अर्धगोले को एक ऐसे शंकु में ढाला गया है जिसके आधार का व्यास 14 cm है। शंकु की ऊँचाई ज्ञात कीजिए।

- Ans
- 1. 12 cm
 - 2. 14 cm
 - 3. 18 cm
 - 4. 16 cm

Question ID : 26433075751

Status : Answered

Chosen Option : 2

Q.5 A अकेले एक कार्य को 196 दिनों में पूरा कर सकता है, और B अकेले इसे 147 दिनों में पूरा कर सकता है। A तथा B दोनों एक साथ कार्य करते हुए कार्य को कितने दिनों में पूरा कर सकते हैं?

- Ans 1. 84
 2. 81
 3. 88
 4. 90

Question ID : 26433075297

Status : Answered

Chosen Option : 1

Q.6 एक ट्रक शहर A से शहर B तक 60 किमी/घंटा की औसत चाल से जाता है। यात्रा में 30 घंटे लगते हैं। यह शहर B से शहर A तक उसी सड़क पर 40 किमी/घंटा की औसत चाल से लौटता है। पूरी यात्रा के दौरान ट्रक की औसत चाल क्या थी?

- Ans 1. 48 किमी/घंटा
 2. 46 किमी/घंटा
 3. 52 किमी/घंटा
 4. 50 किमी/घंटा

Question ID : 26433080355

Status : Answered

Chosen Option : 1

Q.7 अनुज, राम और संजय मिलकर एक कार्य को 78/5 दिनों में पूरा कर सकते हैं जबकि अनुज अकेले उसी कार्य को 39 दिनों में पूरा कर सकता है, तो राम और संजय मिलकर समान कार्य को लगभग कितने दिनों में कर सकते हैं?

- Ans 1. 26 दिन
 2. 44 दिन
 3. 41 दिन
 4. 45 दिन

Question ID : 264330116901

Status : Answered

Chosen Option : 1

Q.8 2 वर्षों में $8\frac{1}{3}\%$ प्रति वर्ष चक्रवृद्धि ब्याज दर पर देय Rs.1,200 के ऋण का वार्षिक भुगतान कितना निकलेगा?

- Ans 1. Rs.1,065
 2. Rs.676
 3. Rs.1,267
 4. Rs.829

Question ID : 26433073031

Status : Answered

Chosen Option : 2

Q.9 अक्षय और विपुल की वार्षिक आय क्रमशः 3 : 2 के अनुपात में है, जबकि उनके व्यय का अनुपात क्रमशः 7 : 3 है। यदि वर्ष के अंत में प्रत्येक ₹1,80,000 की बचत करता है, तो अक्षय की वार्षिक आय कितनी है?

- Ans
- 1. ₹3,24,000
 - 2. ₹4,60,000
 - 3. ₹4,32,000
 - 4. ₹3,20,000

Question ID : 26433076225

Status : Answered

Chosen Option : 3

Q.10 यदि एक घनाभ की लंबाई, चौड़ाई और ऊँचाई क्रमशः 16 cm, 15 cm और 12 cm है, तो घनाभ के सबसे लंबे विकर्ण की लंबाई _____ है।

- Ans
- 1. 18 cm
 - 2. 20 cm
 - 3. 24 cm
 - 4. 25 cm

Question ID : 26433090309

Status : Answered

Chosen Option : 4

Q.11 एक पुरानी वस्तु का अंकित मूल्य ₹4,000 है। A इसे 15% और 10% के दो क्रमागत छूटों पर खरीदता है। वह इसकी मरम्मत पर ₹1,140 खर्च करता है और इसे ₹5,000 में बेच देता है। उसका लाभ या हानि प्रतिशत _____ है। (निकटतम पूर्णांक तक पूर्णांकित)

- Ans
- 1. 20%
 - 2. 18%
 - 3. 17%
 - 4. 19%

Question ID : 26433082383

Status : Answered

Chosen Option : 4

Q.12 यदि दो संख्याओं 456 और 240 का महत्तम समापवर्तक 24 है, तो दी गई संख्याओं का लघुतम समापवर्तक _____ है।

- Ans
- 1. 2400
 - 2. 4560
 - 3. 1200
 - 4. 2280

Question ID : 26433082349

Status : Answered

Chosen Option : 2

Q.13 $(24 \div 12 - 4 + 32) \div (4 + 8 \div 2 - 3)$ का मान _____ है।

- Ans
- 1. 1
 - 2. 7
 - 3. 5
 - 4. 11

Question ID : 26433075753
Status : Answered
Chosen Option : 2

Q.14 एक अंकित मूल्य पर, 8% की छूट से उतना ही लाभ मिलता है जितना कि ₹25 की नकद छूट पर मिलता है। अंकित मूल्य (₹ में) क्या है?

- Ans
- 1. 317.50
 - 2. 315.00
 - 3. 310.00
 - 4. 312.50

Question ID : 26433085452
Status : Answered
Chosen Option : 4

Q.15 एक बेईमान दुकानदार एक ग्राहक को क्रय मूल्य के ऊपर T% के लाभ पर सामान बेचता है और साथ ही 1 kg के स्थान पर वह 800 g तौलता है। उसका कुल लाभ प्रतिशत 40% है। T का मान कितना है?

- Ans
- 1. 12
 - 2. 40
 - 3. 10
 - 4. 24

Question ID : 26433075759
Status : Answered
Chosen Option : 1

Q.16 निम्नलिखित में से सबसे बड़ा अनुपात कौन सा है?

$$\frac{5}{7}, \frac{3}{8}, \frac{9}{15}, \frac{4}{9}$$

Ans

✗ 1. $\frac{9}{15}$

✓ 2. $\frac{5}{7}$

✗ 3. $\frac{3}{8}$

✗ 4. $\frac{4}{9}$

Question ID : 26433075947

Status : Answered

Chosen Option : 2

Q.17 निम्नलिखित में से कौन-सा कथन गलत है?

- Ans
- ✗ 1. समय की गणना दूरी को चाल से विभाजित करके की जाती है।
 - ✗ 2. कम समय में एक निश्चित दूरी तय करने के लिए चाल बढ़ानी पड़ती है।
 - ✓ 3. दी गई समयावधि में अतिरिक्त दूरी तय करने के लिए दी गई चाल को कम कर दिया जाएगा।
 - ✗ 4. चाल की गणना समय से दूरी को विभाजित करके की जाती है।

Question ID : 26433082500

Status : Answered

Chosen Option : 3

Q.18 एक भूखंड की कीमत 1500000 रुपए से बढ़कर 1800000 रुपए हो जाती है। भूखंड की कीमत में प्रतिशत वृद्धि है:

- Ans
- ✗ 1. 10 प्रतिशत
 - ✗ 2. 18 प्रतिशत
 - ✗ 3. 15 प्रतिशत
 - ✓ 4. 20 प्रतिशत

Question ID : 264330116821

Status : Answered

Chosen Option : 4

Q.19 1000 m की एक रेखीय दौड़ में A, B को 50 m या 5 सेकंड से हरा देता है। निर्धारित कीजिए कि A को दौड़ पूरी करने में कितना समय लगता है।

- Ans 1. 95 सेकंड
 2. 100 सेकंड
 3. 60 सेकंड
 4. 120 सेकंड

Question ID : 26433075162
Status : Answered
Chosen Option : 1

Q.20 यदि संगीता के मासिक वेतन में $3\frac{2}{3}\%$ की वृद्धि की जाती है, तो उसे Rs.132 अधिक मिलते हैं। संगीता का मासिक वेतन क्या है?

- Ans 1. Rs.2,400
 2. Rs.3,200
 3. Rs.3,600
 4. Rs.3,000

Question ID : 26433080290
Status : Answered
Chosen Option : 3

Section : Part-D-English

Q.1 Select the most appropriate option to fill in the blank.

The teacher _____ with laughter, pleased with his joke, but then composed himself.

- Ans 1. brayed
 2. blade
 3. braid
 4. bread

Question ID : 26433090394
Status : Not Answered
Chosen Option : --

Q.2 Select the most appropriate ANTONYM of the given word.

Rustic

- Ans 1. Depressed
 2. Natural
 3. Shallow
 4. Urbane

Question ID : 26433087921
Status : Not Answered
Chosen Option : --

Q.3 Select the correct spelling of the underlined word in the following sentence.

The architrectre of the building is worth seeing.

- Ans
- 1. arckitecture
 - 2. architecture
 - 3. architecher
 - 4. architectuer

Question ID : 26433072372
Status : Not Answered
Chosen Option : --

Q.4 Select the most appropriate synonym of the underlined word in the given sentence.

The news channel described the event in graphic detail.

- Ans
- 1. Startling
 - 2. Mirthful
 - 3. Comic
 - 4. Vivid

Question ID : 26433087917
Status : Not Answered
Chosen Option : --

Q.5 Select the most appropriate option that can substitute the underlined segment in the given sentence.

To enable women to become literate and provide for themselves, education for girls must be done voluntary.

- Ans
- 1. made mandatory
 - 2. enabled extensively
 - 3. kept secret
 - 4. done compulsorily

Question ID : 26433089801
Status : Not Answered
Chosen Option : --

Q.6 Select the most appropriate synonym of the word given below to fill in the blank in the following sentence.

The car _____ into the truck.

- Ans
- 1. striped
 - 2. bashed
 - 3. bounded
 - 4. decked

Question ID : 26433084776
Status : Not Answered
Chosen Option : --

Q.7 Select the most appropriate meaning of the given idiom.

Have your heart in your mouth

- Ans 1. Feeling extremely nervous
 2. Doing immediately
 3. Not being of your kind
 4. Accusing someone of faults which you have

Question ID : 26433073707
Status : Not Answered
Chosen Option : --

Q.8 Select the most appropriate ANTONYM of the given word.

Follow

- Ans 1. Trail
 2. Lead
 3. Show
 4. Heed

Question ID : 26433086376
Status : Not Answered
Chosen Option : --

Q.9 Select the most appropriate meaning of the given idiom.

Head over heels

- Ans 1. To be very angry
 2. To have immense patience
 3. To be madly in love
 4. To have dispute

Question ID : 26433073716
Status : Not Answered
Chosen Option : --

Q.10 Identify and correct the INCORRECTLY spelt word in the given sentence.

Sometimes failure is the stepping stone to success.

- Ans 1. succes
 2. stepping
 3. failuire
 4. stown

Question ID : 26433072763
Status : Not Answered
Chosen Option : --

Q.11 Select the correct pair of homonyms to fill in the blanks.

The sales of _____, _____ by 20% on Valentine's Day.

- Ans
- 1. dates, dated
 - 2. pear, pair
 - 3. roses, rose
 - 4. roll, rolled

Question ID : 26433061048
Status : Not Answered
Chosen Option : --

Q.12 Select the most appropriate option that can substitute the underlined segment in the given sentence.

Their plan to action during that critical situation was well appreciated by all.

- Ans
- 1. of action during that
 - 2. in action during that
 - 3. of action off that
 - 4. off action about that

Question ID : 26433089308
Status : Not Answered
Chosen Option : --

Q.13 Select the most appropriate synonym of the given word.

Leap

- Ans
- 1. Run
 - 2. Pile
 - 3. Peek
 - 4. Hop

Question ID : 26433084891
Status : Not Answered
Chosen Option : --

Q.14 Select the most appropriate option to substitute the underlined segment in the given sentence.

The syllabus designers has tried to address the problem of time available for teaching.

- Ans
- 1. have tried to address
 - 2. having tried to address
 - 3. has tried addressing
 - 4. has been tried to address

Question ID : 264330100290
Status : Not Answered
Chosen Option : --

Q.15 The following sentence has been split into four segments. Identify the segment that contains a grammatical error.

I were / writing / this poem / last evening.

- Ans** 1. I were
 2. writing
 3. this poem
 4. last evening

Question ID : 26433094742

Status : Not Answered

Chosen Option : --

Comprehension:

In the following passage, some words have been deleted. Read the passage carefully and select the most appropriate option to fill in each blank.

We (1)_____ brought up to fear insects. We regard them as unnecessary creatures that do more harm than good. Man continually (2)_____ war on them, because they contaminate his food, carry diseases, or devour his crops. They sting or bite without provocation; they fly uninvited into our rooms on summer nights or beat against our lighted windows. We live in dread not only of unpleasant insects like spiders or wasps but of quite (3)_____ ones like moths. Reading about them increases our understanding without dispelling our fears.

Knowing that the industrious ant lives in a highly organised society does nothing to prevent us from being filled with revulsion when we find hordes of them crawling over a carefully prepared picnic lunch.

No matter how much we like honey or how much we have read about the uncanny sense of direction which bees possess, we have a horror of being stung. (4)_____ of our fears are unreasonable but they are difficult to erase. At the same time, however, insects are strangely fascinating. We enjoy reading about them, especially when we find that, like the praying mantis, they lead perfectly horrible lives. We enjoy staring at them, entranced as they go (5)_____ their business, unaware (we hope) of our presence.

SubQuestion No : 16

Q.16 Select the most appropriate option to fill in blank 1.

- Ans** 1. have been
 2. were being
 3. are been
 4. will be being

Question ID : 26433090442

Status : Not Answered

Chosen Option : --

Comprehension:

In the following passage, some words have been deleted. Read the passage carefully and select the most appropriate option to fill in each blank.

We (1)_____ brought up to fear insects. We regard them as unnecessary creatures that do more harm than good. Man continually (2)_____ war on them, because they contaminate his food, carry diseases, or devour his crops. They sting or bite without provocation; they fly uninvited into our rooms on summer nights or beat against our lighted windows. We live in dread not only of unpleasant insects like spiders or wasps but of quite (3)_____ ones like moths. Reading about them increases our understanding without dispelling our fears. Knowing that the industrious ant lives in a highly organised society does nothing to prevent us from being filled with revulsion when we find hordes of them crawling over a carefully prepared picnic lunch.

No matter how much we like honey or how much we have read about the uncanny sense of direction which bees possess, we have a horror of being stung. (4)_____ of our fears are unreasonable but they are difficult to erase. At the same time, however, insects are strangely fascinating. We enjoy reading about them, especially when we find that, like the praying mantis, they lead perfectly horrible lives. We enjoy staring at them, entranced as they go (5)_____ their business, unaware (we hope) of our presence.

SubQuestion No : 17

Q.17 Select the most appropriate option to fill in blank 2.

- Ans
- 1. yields
 - 2. employs
 - 3. wages
 - 4. redresses

Question ID : 26433090443

Status : Not Answered

Chosen Option : --

Comprehension:

In the following passage, some words have been deleted. Read the passage carefully and select the most appropriate option to fill in each blank.

We (1)_____ brought up to fear insects. We regard them as unnecessary creatures that do more harm than good. Man continually (2)_____ war on them, because they contaminate his food, carry diseases, or devour his crops. They sting or bite without provocation; they fly uninvited into our rooms on summer nights or beat against our lighted windows. We live in dread not only of unpleasant insects like spiders or wasps but of quite (3)_____ ones like moths. Reading about them increases our understanding without dispelling our fears. Knowing that the industrious ant lives in a highly organised society does nothing to prevent us from being filled with revulsion when we find hordes of them crawling over a carefully prepared picnic lunch.

No matter how much we like honey or how much we have read about the uncanny sense of direction which bees possess, we have a horror of being stung. (4)_____ of our fears are unreasonable but they are difficult to erase. At the same time, however, insects are strangely fascinating. We enjoy reading about them, especially when we find that, like the praying mantis, they lead perfectly horrible lives. We enjoy staring at them, entranced as they go (5)_____ their business, unaware (we hope) of our presence.

SubQuestion No : 18

Q.18 Select the most appropriate option to fill in blank 3.

- Ans
- 1. benignant
 - 2. harmless
 - 3. wholesome
 - 4. nonfatal

Question ID : 26433090444

Status : Not Answered

Chosen Option : --

Comprehension:

In the following passage, some words have been deleted. Read the passage carefully and select the most appropriate option to fill in each blank.

We (1)_____ brought up to fear insects. We regard them as unnecessary creatures that do more harm than good. Man continually (2)_____ war on them, because they contaminate his food, carry diseases, or devour his crops. They sting or bite without provocation; they fly uninvited into our rooms on summer nights or beat against our lighted windows. We live in dread not only of unpleasant insects like spiders or wasps but of quite (3)_____ ones like moths. Reading about them increases our understanding without dispelling our fears. Knowing that the industrious ant lives in a highly organised society does nothing to prevent us from being filled with revulsion when we find hordes of them crawling over a carefully prepared picnic lunch.

No matter how much we like honey or how much we have read about the uncanny sense of direction which bees possess, we have a horror of being stung. (4)_____ of our fears are unreasonable but they are difficult to erase. At the same time, however, insects are strangely fascinating. We enjoy reading about them, especially when we find that, like the praying mantis, they lead perfectly horrible lives. We enjoy staring at them, entranced as they go (5)_____ their business, unaware (we hope) of our presence.

SubQuestion No : 19

Q.19 Select the most appropriate option to fill in blank 4.

- Ans
- 1. Few
 - 2. Most
 - 3. Several
 - 4. Some

Question ID : 26433090445

Status : Not Answered

Chosen Option : --

Comprehension:

In the following passage, some words have been deleted. Read the passage carefully and select the most appropriate option to fill in each blank.

We (1)_____ brought up to fear insects. We regard them as unnecessary creatures that do more harm than good. Man continually (2)_____ war on them, because they contaminate his food, carry diseases, or devour his crops. They sting or bite without provocation; they fly uninvited into our rooms on summer nights or beat against our lighted windows. We live in dread not only of unpleasant insects like spiders or wasps but of quite (3)_____ ones like moths. Reading about them increases our understanding without dispelling our fears. Knowing that the industrious ant lives in a highly organised society does nothing to prevent us from being filled with revulsion when we find hordes of them crawling over a carefully prepared picnic lunch.

No matter how much we like honey or how much we have read about the uncanny sense of direction which bees possess, we have a horror of being stung. (4)_____ of our fears are unreasonable but they are difficult to erase. At the same time, however, insects are strangely fascinating. We enjoy reading about them, especially when we find that, like the praying mantis, they lead perfectly horrible lives. We enjoy staring at them, entranced as they go (5)_____ their business, unaware (we hope) of our presence.

SubQuestion No : 20

Q.20 Select the most appropriate option to fill in blank 5.

- Ans
- 1. beside
 - 2. near
 - 3. around
 - 4. about

Question ID : 26433090446

Status : Not Answered

Chosen Option : --

Q.1 निम्नलिखित मुहावरे के उचित अर्थ का चयन विकल्पों में से कीजिए।
ईट का जवाब पत्थर से देना

- Ans
- 1. गुप्त रहस्य प्रकट कर देना
 - 2. किसी की दुष्टता का करारा जवाब देना
 - 3. युद्धात्मक विनाश लाना
 - 4. विचलित होना

Question ID : 26433070000
Status : Answered
Chosen Option : 2

Q.2 निम्नलिखित वाक्य में रेखांकित खंड के स्थान पर प्रयुक्त होने वाले सबसे उपयुक्त विकल्प का चयन कीजिए।

वह सकुशल गाँव पहुँचे गया।

- Ans
- 1. पहुँचाना
 - 2. पहुँच
 - 3. पहुँची
 - 4. पहचान

Question ID : 26433079668
Status : Answered
Chosen Option : 2

Q.3 'चक्षुश्रवा' के लिए उपयुक्त वाक्य खंड चुनकर लिखिए।

- Ans
- 1. चक्षु से जो देखने का कार्य करता है।
 - 2. चक्षु से जो श्रवण कार्य करता है।
 - 3. चक्षु को जो दूसरों के साथ मिलाता है।
 - 4. चक्षु को जो बंदकर सोचता है।

Question ID : 26433063062
Status : Answered
Chosen Option : 2

Q.4 निम्नलिखित वाक्यांश के लिए उपयुक्त सार्थक शब्द क्या होगा?
किसी व्यवस्था को देखने वाला

- Ans
- 1. व्यापक
 - 2. व्यामक
 - 3. व्यवस्थापक
 - 4. व्यावहारिक

Question ID : 26433073315
Status : Answered
Chosen Option : 3

Q.5 निम्न में से कौन सा शब्द संख्यावाचक विशेषण का उदाहरण नहीं है?

- Ans
- 1. लगातार
 - 2. दोगुना
 - 3. पहला
 - 4. बहुत

Question ID : 26433085052

Status : Answered

Chosen Option : 1

Q.6 निम्नलिखित विकल्पों में से किस एक वाक्य में 'मोद' शब्द के लिए उचित पर्यायवाची का प्रयोग हुआ है?

- Ans
- 1. उमेश को उम्मीद है।
 - 2. नौकरी मिलने पर वह हर्षित है।
 - 3. नरेश दुखी है।
 - 4. वह पढ़ता है।

Question ID : 26433091189

Status : Answered

Chosen Option : 2

Q.7 निम्नलिखित मुहावरे का सही अर्थ विकल्पों में से चुनिए।
खरा खेल फरुखाबादी

- Ans
- 1. सही काम
 - 2. गुप्त सलाह करना
 - 3. युद्ध में मारा जाना
 - 4. परेशान होना

Question ID : 26433070012

Status : Answered

Chosen Option : 2

Q.8 निम्नलिखित में से शुद्ध वाक्य कौन सा है?

- Ans
- 1. वह लड़का खटनत है।
 - 2. वह लड़का नटखट है।
 - 3. वह लड़का नटखत है।
 - 4. वह लड़का नटनट है।

Question ID : 26433066831

Status : Answered

Chosen Option : 2

Q.9 मनुष्य को जीवों का रक्षक बनना चाहिए।
उपरोक्त वाक्य में रेखांकित शब्द के सही विलोम शब्द का चयन कीजिए।

- Ans
- 1. तक्षक
 - 2. वधिक
 - 3. भक्षक
 - 4. मारक

Question ID : 26433079744
Status : Answered
Chosen Option : 3

Q.10 'जो बहुत कम जानता हो' वाक्यांश के लिए सही शब्द क्या होगा?

- Ans
- 1. कृतज्ञ
 - 2. जिज्ञासु
 - 3. अल्पज्ञ
 - 4. सर्वज्ञ

Question ID : 26433069982
Status : Answered
Chosen Option : 3

Q.11 निम्नलिखित वाक्य के किस शब्द में अशुद्धि है?
चावल का अभाव चिंतनिय है।

- Ans
- 1. है
 - 2. चिंतनिय
 - 3. चावल
 - 4. अभाव

Question ID : 26433066770
Status : Answered
Chosen Option : 2

Q.12 निम्नलिखित विकल्पों में से किस एक वाक्य में 'आरम्भ' शब्द के लिए उचित विलोम का प्रयोग हुआ है?

- Ans
- 1. हर व्यक्ति का अंत सुनिश्चित है।
 - 2. समय की कद्र करना चाहिए।
 - 3. शिमला भारत में है।
 - 4. देश को श्रमजीवी लोगों की जरूरत है।

Question ID : 26433091191
Status : Answered
Chosen Option : 1

Q.13 इस कक्ष की लंबाई, ऊँचाई और चौड़ाई बराबर और एकरूप है।
उपरोक्त वाक्य में कौन-सा शब्द भाववाचक संज्ञा शब्द नहीं है?

- Ans
- 1. एकरूप
 - 2. चौड़ाई
 - 3. ऊँचाई
 - 4. लंबाई

Question ID : 26433062854
Status : Answered
Chosen Option : 1

Q.14 इनमें से कौन-सा शब्द 'गंगा' का पर्यायवाची नहीं है?

- Ans
- 1. विष्णुपदी
 - 2. कालिंदी
 - 3. देवनदी
 - 4. त्रिपथगा

Question ID : 26433066896
Status : Answered
Chosen Option : 2

Q.15 दिए गये वाक्यांश के लिए उचित शब्द बताइए – 'किसी बात पर बार-बार जोर देना'

- Ans
- 1. हठ
 - 2. बारम्बारता
 - 3. हठधर्मिता
 - 4. आग्रह

Question ID : 26433062587
Status : Answered
Chosen Option : 4

Comprehension:

प्रश्न संख्या 1-5 के उत्तर निम्न गद्यांश के आधार पर दीजिए।

भारत ने 1. _____ प्राप्त करने के बाद अनेक क्षेत्रों में महत्वपूर्ण उपलब्धियाँ प्राप्त की हैं। जब हम स्वतंत्र हुए तो उस समय हमारी स्थिति अच्छी न थी। सरकारी प्रयासों से काफी सुधार हुआ परंतु अभी भी एक 2. _____

ऐसा है जिसमें हम अभी तक कुछ विशेष नहीं कर पाए हैं, वह क्षेत्र है - खेलों का। इससे बड़ी विडंबना और क्या हो सकती है कि वर्षों से हम ओलंपिक में कोई भी स्वर्णपदक नहीं जीत पाए। दुनिया के छोटे-छोटे अविकसित, निर्धन राष्ट्रों के प्रतिभागी भी 3. _____ के क्षेत्र में हमसे आगे निकल गए हैं। कभी हॉकी का विशेष चैंपियन रहने वाला भारत आज इस खेल में अपनी प्रतिष्ठा खो चुका है। खेलों के गिरते स्तर के लिए कौन जिम्मेदार है? एक ओर सरकार की उदासीन दोषपूर्ण सरकारी नीतियाँ हैं तो दूसरी ओर विभिन्न खेल संघों की 4. _____, खिलाड़ियों के लिए सुविधाओं एवं प्रशिक्षण का सर्वथा अभाव या कुछ और प्रतियोगिताओं में भाग लेकर खाली हाथ लौटने पर सभी एक दूसरे को दोषी बताते हैं। कारण चाहे जो भी हो इतना तय है कि खेलकूद को राष्ट्रीय 5. _____ का पर्याय नहीं मानते। अभाव प्रतियोगिताओं का नहीं, अभाव है तो लगन का, प्रोत्साहन का, संकल्प का और मुंहतोड़ जवाब देने वाले जीवट का।

SubQuestion No : 16

Q.16 रिक्त स्थान 1 पर आने वाला सर्वाधिक उपयुक्त शब्द इनमें से क्या होगा?

- Ans
- 1. खुशी
 - 2. गुलामी
 - 3. पराधीनता
 - 4. स्वाधीनता

Question ID : 26433072606

Status : Answered

Chosen Option : 4

Comprehension:

प्रश्न संख्या 1-5 के उत्तर निम्न गद्यांश के आधार पर दीजिए।

भारत ने 1. _____ प्राप्त करने के बाद अनेक क्षेत्रों में महत्वपूर्ण उपलब्धियाँ प्राप्त की हैं। जब हम स्वतंत्र हुए तो उस समय हमारी स्थिति अच्छी न थी। सरकारी प्रयासों से काफी सुधार हुआ परंतु अभी भी एक 2. _____

ऐसा है जिसमें हम अभी तक कुछ विशेष नहीं कर पाए हैं, वह क्षेत्र है - खेलों का। इससे बड़ी विडंबना और क्या हो सकती है कि वर्षों से हम ओलंपिक में कोई भी स्वर्णपदक नहीं जीत पाए। दुनिया के छोटे-छोटे अविकसित, निर्धन राष्ट्रों के प्रतिभागी भी 3. _____ के क्षेत्र में हमसे आगे निकल गए हैं। कभी हॉकी का विशेष चैंपियन रहने वाला भारत आज इस खेल में अपनी प्रतिष्ठा खो चुका है। खेलों के गिरते स्तर के लिए कौन जिम्मेदार है? एक ओर सरकार की उदासीन दोषपूर्ण सरकारी नीतियाँ हैं तो दूसरी ओर विभिन्न खेल संघों की 4. _____, खिलाड़ियों के लिए सुविधाओं एवं प्रशिक्षण का सर्वथा अभाव या कुछ और प्रतियोगिताओं में भाग लेकर खाली हाथ लौटने पर सभी एक दूसरे को दोषी बताते हैं। कारण चाहे जो भी हो इतना तय है कि खेलकूद को राष्ट्रीय 5. _____ का पर्याय नहीं मानते। अभाव प्रतियोगिताओं का नहीं, अभाव है तो लगन का, प्रोत्साहन का, संकल्प का और मुंहतोड़ जवाब देने वाले जीवट का।

SubQuestion No : 17

Q.17 रिक्त स्थान 2 पर आने वाला सर्वाधिक उपयुक्त शब्द इनमें से क्या होगा?

- Ans
- 1. मामला
 - 2. खेत
 - 3. क्षेत्र
 - 4. शहर

Question ID : 26433072607

Status : Answered

Chosen Option : 3

Comprehension:

प्रश्न संख्या 1-5 के उत्तर निम्न गद्यांश के आधार पर दीजिए।

भारत ने 1. _____ प्राप्त करने के बाद अनेक क्षेत्रों में महत्वपूर्ण उपलब्धियाँ प्राप्त की हैं। जब हम स्वतंत्र हुए तो उस समय हमारी स्थिति अच्छी न थी। सरकारी प्रयासों से काफी सुधार हुआ परंतु अभी भी एक 2. _____

ऐसा है जिसमें हम अभी तक कुछ विशेष नहीं कर पाए हैं, वह क्षेत्र है - खेलों का। इससे बड़ी विडंबना और क्या हो सकती है कि वर्षों से हम ओलंपिक में कोई भी स्वर्णपदक नहीं जीत पाए। दुनिया के छोटे-छोटे अविकसित, निर्धन राष्ट्रों के प्रतिभागी भी 3. _____ के क्षेत्र में हमसे आगे निकल गए हैं। कभी हॉकी का विशेष चैंपियन रहने वाला भारत आज इस खेल में अपनी प्रतिष्ठा खो चुका है। खेलों के गिरते स्तर के लिए कौन जिम्मेदार है? एक ओर सरकार की उदासीन दोषपूर्ण सरकारी नीतियाँ हैं तो दूसरी ओर विभिन्न खेल संघों की 4. _____, खिलाड़ियों के लिए सुविधाओं एवं प्रशिक्षण का सर्वथा अभाव या कुछ और प्रतियोगिताओं में भाग लेकर खाली हाथ लौटने पर सभी एक दूसरे को दोषी बताते हैं। कारण चाहे जो भी हो इतना तय है कि खेलकूद को राष्ट्रीय 5. _____ का पर्याय नहीं मानते। अभाव प्रतियोगिताओं का नहीं, अभाव है तो लगन का, प्रोत्साहन का, संकल्प का और मुंहतोड़ जवाब देने वाले जीवट का।

SubQuestion No : 18

Q.18 रिक्त स्थान 3 पर आने वाला सर्वाधिक उपयुक्त शब्द इनमें से क्या होगा?

- Ans
- 1. नृत्य
 - 2. संगीत
 - 3. खेलकूद
 - 4. अभिनय

Question ID : 26433072608

Status : Answered

Chosen Option : 3

Comprehension:

प्रश्न संख्या 1-5 के उत्तर निम्न गद्यांश के आधार पर दीजिए।

भारत ने 1. _____ प्राप्त करने के बाद अनेक क्षेत्रों में महत्वपूर्ण उपलब्धियाँ प्राप्त की हैं। जब हम स्वतंत्र हुए तो उस समय हमारी स्थिति अच्छी न थी। सरकारी प्रयासों से काफी सुधार हुआ परंतु अभी भी एक 2. _____

ऐसा है जिसमें हम अभी तक कुछ विशेष नहीं कर पाए हैं, वह क्षेत्र है - खेलों का। इससे बड़ी विडंबना और क्या हो सकती है कि वर्षों से हम ओलंपिक में कोई भी स्वर्णपदक नहीं जीत पाए। दुनिया के छोटे-छोटे अविकसित, निर्धन राष्ट्रों के प्रतिभागी भी 3. _____ के क्षेत्र में हमसे आगे निकल गए हैं। कभी हॉकी का विशेष चैंपियन रहने वाला भारत आज इस खेल में अपनी प्रतिष्ठा खो चुका है। खेलों के गिरते स्तर के लिए कौन जिम्मेदार है? एक ओर सरकार की उदासीन दोषपूर्ण सरकारी नीतियाँ हैं तो दूसरी ओर विभिन्न खेल संघों की 4. _____, खिलाड़ियों के लिए सुविधाओं एवं प्रशिक्षण का सर्वथा अभाव या कुछ और प्रतियोगिताओं में भाग लेकर खाली हाथ लौटने पर सभी एक दूसरे को दोषी बताते हैं। कारण चाहे जो भी हो इतना तय है कि खेलकूद को राष्ट्रीय 5. _____ का पर्याय नहीं मानते। अभाव प्रतियोगिताओं का नहीं, अभाव है तो लगन का, प्रोत्साहन का, संकल्प का और मुंहतोड़ जवाब देने वाले जीवट का।

SubQuestion No : 19

Q.19 रिक्त स्थान 4 पर आने वाला सर्वाधिक उपयुक्त शब्द इनमें से क्या होगा?

- Ans
- 1. गुटबाजी
 - 2. दुश्मनी
 - 3. दोस्ती
 - 4. मित्रता

Question ID : 26433072609

Status : Answered

Chosen Option : 1

Comprehension:

प्रश्न संख्या 1-5 के उत्तर निम्न गद्यांश के आधार पर दीजिए।

भारत ने 1. _____ प्राप्त करने के बाद अनेक क्षेत्रों में महत्वपूर्ण उपलब्धियाँ प्राप्त की हैं। जब हम स्वतंत्र हुए तो उस समय हमारी स्थिति अच्छी न थी। सरकारी प्रयासों से काफी सुधार हुआ परंतु अभी भी एक 2.

_____ ऐसा है जिसमें हम अभी तक कुछ विशेष नहीं कर पाए हैं, वह क्षेत्र है - खेलों का। इससे बड़ी विडंबना और क्या हो सकती है कि वर्षों से हम ओलंपिक में कोई भी स्वर्णपदक नहीं जीत पाए। दुनिया के छोटे-छोटे अविकसित, निर्धन राष्ट्रों के प्रतिभागी भी 3. _____ के क्षेत्र में हमसे आगे निकल गए हैं। कभी हॉकी का विशेष चैंपियन रहने वाला भारत आज इस खेल में अपनी प्रतिष्ठा खो चुका है। खेलों के गिरते स्तर के लिए कौन जिम्मेदार है? एक ओर सरकार की उदासीन दोषपूर्ण सरकारी नीतियाँ हैं तो दूसरी ओर विभिन्न खेल संघों की 4. _____, खिलाड़ियों के लिए सुविधाओं एवं प्रशिक्षण का सर्वथा अभाव या कुछ और प्रतियोगिताओं में भाग लेकर खाली हाथ लौटने पर सभी एक दूसरे को दोषी बताते हैं। कारण चाहे जो भी हो इतना तय है कि खेलकूद को राष्ट्रीय 5. _____ का पर्याय नहीं मानते। अभाव प्रतियोगिताओं का नहीं, अभाव है तो लगन का, प्रोत्साहन का, संकल्प का और मुहतोड़ जवाब देने वाले जीवट का।

SubQuestion No : 20

Q.20 रिक्त स्थान 5 पर आने वाला सर्वाधिक उपयुक्त शब्द इनमें से क्या होगा?

- Ans
- 1. खुशी
 - 2. अपमान
 - 3. सम्मान
 - 4. दुख

Question ID : 26433072610

Status : Answered

Chosen Option : 3

KD Job Updates

Constable GD in CAPFs SSF Rifleman GD in Assam Rifles and Sepoy in NCB Examination 2022

Roll Number	KD Job Updates
Candidate Name	KD Job Updates
Venue Name	Khawaja Gharib Nawaz College of Nursing
Exam Date	09/02/2023
Exam Time	9:00 AM - 10:00 AM
Subject	Constable GD Examination 2022

Section : Part-A-General Intelligence and Reasoning

Q.1 'A + B' का अर्थ है 'A, B की बहन है'।
'A - B' का अर्थ है 'A, B का पति है'।
'A × B' का अर्थ है 'A, B का पिता है'।
'A ÷ B' का अर्थ है 'A, B की पुत्री है'।
यदि $R + T ÷ P - M$ है, तो P, R से किस प्रकार संबंधित है?

- Ans
- 1. पुत्री
 - 2. माँ
 - 3. पुत्र
 - 4. पिता

Question ID : 26433069174

Status : Answered

Chosen Option : 4

Q.2 निम्नलिखित में से कौन-सा पद दी गई शृंखला में प्रश्न-चिह्न (?) के स्थान पर आएगा?
UWAR, OUEP, ISIN, EQOL, ?

- Ans
- 1. AOJJ
 - 2. BOUK
 - 3. AOVK
 - 4. BOVJ

Question ID : 26433068311

Status : Answered

Chosen Option : 1

Q.3 दिए गए समीकरण को संतुलित करने के लिए विकल्पों में दी गई किन दो संख्याओं(अंको को नहीं) को परस्पर बदलना होगा?
 $(60 ÷ 2) × 3 - 100 + 400 = 560$

- Ans
- 1. 100 और 560
 - 2. 60 और 100
 - 3. 400 और 60
 - 4. 400 और 560

Question ID : 26433082482

Status : Answered

Chosen Option : 3

Q.4 उस विकल्प का चयन करें, जो पाँचवीं संख्या से उसी प्रकार संबंधित है, जिस प्रकार दूसरी संख्या, पहली संख्या से संबंधित है और चौथी संख्या, तीसरी संख्या से संबंधित है।
441 : 7 :: 225 : 5 :: 729 : ?

- Ans
- 1. 3
 - 2. 9
 - 3. 6
 - 4. 12

Question ID : 26433069408

Status : Answered

Chosen Option : 2

Q.5 दिए गए कथनों और निष्कर्षों को ध्यानपूर्वक पढ़िए। यह मानते हुए कि कथनों में दी गई जानकारी सत्य है, भले ही वह सामान्य रूप से ज्ञात तथ्यों से भिन्न प्रतीत होती हो, तय कीजिये कि दिए गए निष्कर्षों में से कौन सा/से कथनों का तार्किक रूप से अनुसरण करता है/करते हैं।

कथन:

- सभी बिल्लियाँ, कुत्ते हैं।
- कुछ कुत्ते, हाथी हैं।
- सभी हाथी, ऊँट हैं।

निष्कर्ष:

- I. सभी बिल्लियाँ, हाथी हैं।
- II. कुछ बिल्लियाँ, हाथी हैं।
- III. कुछ हाथी, कुत्ते हैं
- IV. कुछ ऊँट, कुत्ते हैं।

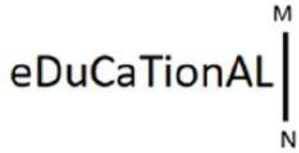
- Ans
- 1. निष्कर्ष III और IV अनुसरण करते हैं
 - 2. केवल निष्कर्ष I अनुसरण करता है
 - 3. कोई भी निष्कर्ष अनुसरण नहीं करता है
 - 4. केवल निष्कर्ष II अनुसरण करता है

Question ID : 26433082663

Status : Answered

Chosen Option : 1

Q.6 दी गई आकृति के सही दर्पण प्रतिबिम्ब का चयन करें जब दर्पण को MN पर रखा जाए जैसा कि नीचे दर्शाया गया है।



Ans

- ✗ 1.
- ✓ 2.
- ✗ 3.
- ✗ 4.

Question ID : 26433085552

Status : Answered

Chosen Option : 2

Q.7 निम्नलिखित में से कौन-सी संख्या दी गई श्रृंखला में प्रश्न-चिह्न (?) का स्थान लेगी?
216, 343, ?, 729, 1000

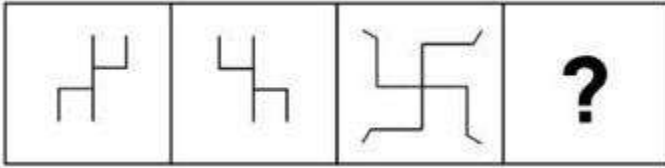
- Ans
- ✓ 1. 512
 - ✗ 2. 525
 - ✗ 3. 470
 - ✗ 4. 624

Question ID : 26433068093

Status : Answered


Chosen Option : 1

Q.8 वह विकल्प ज्ञात कीजिए जो तीसरी आकृति से उसी प्रकार संबंधित है जैसे दूसरी आकृति पहली आकृति से संबंधित है।
(पहला आकृति सबसे बाईं ओर की आकृति है।)

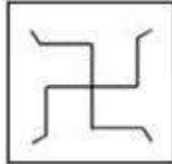


Ans

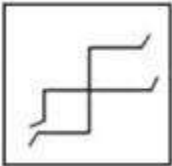
✗ 1.




✓ 2.



✗ 3.



✗ 4.



Question ID : 26433078859

Status : Answered

Chosen Option : 2

Q.9 किस विकल्प में निम्नलिखित शब्दों का वह क्रम दिया गया है, जिस क्रम में वे अंग्रेजी शब्दकोश में आते हैं?

- 1 finish
- 2 fight
- 3 figure
- 4 fire
- 5 finger

Ans ✗ 1. 3,2,4,5,1

✗ 2. 2,4,5,3,1

✗ 3. 4,3,2,5,1

✓ 4. 2,3,5,1,4

Question ID : 26433069292

Status : Answered

Chosen Option : 4

Q.10 एक कूट भाषा में, 'make time' को 'bo ho', 'time never stops' को 'ho ru du', 'she stops work' को 'vu du ya', और 'never make mistakes' को 'ru bo tu' के रूप में कूटबद्ध किया जाता है। शब्द 'never' के लिए कूट क्या होगा?

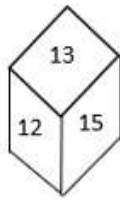
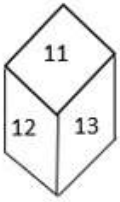
- Ans 1. ru
 2. ho
 3. bo
 4. ya

Question ID : 26433069468

Status : Answered

Chosen Option : 1

Q.11 एक ही पासे की दो अलग-अलग स्थितियों को दिखाया गया है। '11' दर्शाने वाले फलक के विपरीत फलक पर संख्या ज्ञात कीजिए।



- Ans 1. 16
 2. 15
 3. 14
 4. 12

Question ID : 26433089506

Status : Answered

Chosen Option : 2

Q.12 सात व्यक्ति M, N, O, P, Q, R और S एक सीधी पंक्ति में उत्तर की ओर मुख करके बैठे हैं। P, M के दाईं ओर तीसरे स्थान पर बैठा है। Q और S के बीच केवल चार व्यक्ति बैठे हैं। O, Q के दाईं ओर तीसरे स्थान पर बैठा है। R, Q के बाईं ओर ठीक बगल में बैठा है। पंक्ति के ठीक मध्य में कौन बैठा है?

- Ans 1. O
 2. N
 3. M
 4. Q

Question ID : 26433068281

Status : Answered

Chosen Option : 2

Q.13 उस विकल्प का चयन करें जो पाँचवें पद से उसी तरह से संबंधित है, जिस तरह से दूसरा पद पहले पद से संबंधित है और चौथा पद तीसरे पद से संबंधित है।
RAYMOND : MYARDNO :: COMMAND : MMOCDNA :: COMPARE : ?

- Ans
- 1. AECORMP
 - 2. ERAPMOC
 - 3. PMOCERA
 - 4. PARECOM

Question ID : 26433067266
Status : Answered
Chosen Option : 3

Q.14 छः मित्र - K, L, M, N, O और P, एक वृत्ताकार मेज के परितः केंद्र के विपरीत दिशा की ओर मुख करके बैठे हैं। M, O के बाईं ओर ठीक बगल में, और K के दाईं ओर ठीक बगल में बैठा है। K, N के दाईं ओर ठीक बगल में बैठा है। L, N के बाईं ओर ठीक बगल में बैठा है। P, L और O के बीच में बैठा है। P के दाईं ओर ठीक बगल में कौन बैठा है?

- Ans
- 1. M
 - 2. O
 - 3. P
 - 4. L

Question ID : 26433074610
Status : Answered
Chosen Option : 4

Q.15 कौन-सा अक्षर-समूह दी गई श्रृंखला में प्रश्नचिह्न (?) के स्थान पर आकर श्रृंखला को पूर्ण करेगा?
CEGI, JLNP, QSUW, XZBD, ?

- Ans
- 1. EGKI
 - 2. EDHI
 - 3. EGIK
 - 4. EHIK

Question ID : 26433067720
Status : Answered
Chosen Option : 3

Q.16 उस विकल्प का चयन करें जो पांचवे अक्षर-समूह से उसी प्रकार संबंधित है जिस प्रकार दूसरा अक्षर-समूह पहले अक्षर-समूह से संबंधित है और चौथा अक्षर-समूह तीसरे अक्षर-समूह से संबंधित है।
CERAMIC : ACPYKGA :: GLASSES : EJYQQCQ :: PLASTIC : ?

- Ans
- 1. NJYQRGA
 - 2. NJRGAYQ
 - 3. NYQRGAJ
 - 4. NGAJYQR

Question ID : 26433070324
Status : Answered
Chosen Option : 1

Q.17 निम्न में से कौन सी संख्या दी गई श्रृंखला में प्रश्नचिह्न (?) के स्थान पर आएगी?
5, 11, 21, ?, 85, 171

- Ans
- 1. 55
 - 2. 59
 - 3. 43
 - 4. 36

Question ID : 26433076741

Status : Answered

Chosen Option : 3

Q.18 एक निश्चित कूट भाषा में 'HOUSE' को 'JUWYG' के रूप में और 'BEARD' को 'DKCXF' के रूप में लिखा जाता है। इसी कूट भाषा में 'CRAVE' को कैसे लिखा जाएगा?

- Ans
- 1. ANDAG
 - 2. DMCEG
 - 3. FLBEG
 - 4. EXCBG

Question ID : 26433079488

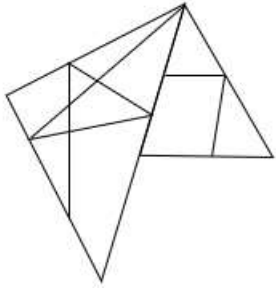
Status : Answered

Chosen Option : 4

KD Job Updates

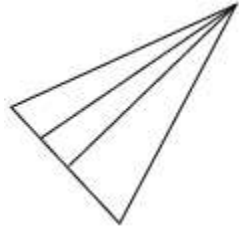
Q.19 वह विकल्प चित्र चुनिए, जो प्रस्तुत चित्र में अंतर्निहित है। (घुमाना अनुमन्य नहीं

है)

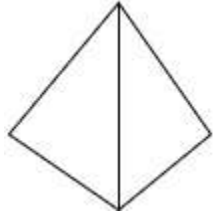


Ans

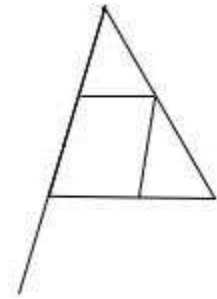
✗ 1.



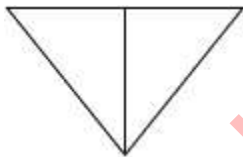
✗ 2.



✓ 3.



✗ 4.



KD Job Updates

Question ID : 26433069346

Status : Answered

Chosen Option : 3

Q.20 नीचे दिए गए समीकरण को गणितीय रूप से सही बनाने के लिए किन दो चिन्हों को परस्पर बदलना चाहिए?

$$24 + 18 \times 40 - 10 \div 20 = 76$$

Ans ✗ 1. + और ×

✗ 2. + और ÷

✓ 3. ÷ और -

✗ 4. - और +

Question ID : 264330117502

Status : Answered

Chosen Option : 3

Q.1 एक अधिनियम जो बच्चों को यौन हमले, यौन उत्पीड़न और अश्लील साहित्य के अपराधों से बचाने के लिए और विशेष न्यायालयों की स्थापना के लिए योजना करता है, _____ (POCSO) के रूप में संदर्भित किया जाता है।

- Ans
- 1. लैंगिक अपराधों से बालकों का संरक्षण अधिनियम, 2012
 - 2. लैंगिक अपराधों से बालकों का संरक्षण अधिनियम, 2013
 - 3. लैंगिक अपराधों से बालकों का निवारण अधिनियम, 2012
 - 4. लैंगिक कटु अनुभव से बालकों का संरक्षण अधिनियम, 2012

Question ID : 264330116214
Status : Answered
Chosen Option : 1

Q.2 भारतीय एथलीट सोमदेव देववर्मन निम्नलिखित में से किस खेल से संबंधित हैं?

- Ans
- 1. टेबल टेनिस
 - 2. हॉकी
 - 3. लॉन टेनिस
 - 4. फुटबॉल

Question ID : 264330116282
Status : Not Answered
Chosen Option : --

Q.3 भारत में सरकार का एक संसदीय स्वरूप है, जो _____ के संविधान से आहरित एक विशेषता है।

- Ans
- 1. ऑस्ट्रेलिया
 - 2. ब्रिटेन
 - 3. संयुक्त राज्य अमेरिका
 - 4. दक्षिण अफ्रीका

Question ID : 26433089178
Status : Answered
Chosen Option : 3

Q.4 नीति (NITI) आयोग के बहुआयामी गरीबी सूचकांक (MPI) 2021 के अनुसार, निम्नलिखित में से कौन सा राज्य देश का सबसे गरीब राज्य था?

- Ans
- 1. पंजाब
 - 2. बिहार
 - 3. उत्तर प्रदेश
 - 4. झारखंड

Question ID : 264330116068
Status : Answered
Chosen Option : 2

Q.5 गहरे समुद्र के जलतापीय पारिस्थितिकी तंत्र को छोड़कर, सूर्य पृथ्वी पर सभी पारिस्थितिक तंत्रों के लिए ऊर्जा का एकमात्र स्रोत है। ऊर्जा खाद्य श्रृंखला में सूर्य के बाद अगला क्या आता है?

- Ans
- 1. आदमी
 - 2. पौधे
 - 3. मांसाहारी
 - 4. शाकाहारी

Question ID : 264330115196
Status : Answered
Chosen Option : 2

Q.6 कौन सा शास्त्रीय नृत्य साधारणतया विष्णु के स्त्री रूप की कहानी का वर्णन करता है?

- Ans
- 1. मोहिनीअट्टम
 - 2. कथक
 - 3. मणिपुरी
 - 4. सत्रीया

Question ID : 26433072920
Status : Answered
Chosen Option : 1

Q.7 किस स्थान के दाब का वितरण भारत में सर्दियों में मौसम की स्थिति को प्रभावित करता है?

- Ans
- 1. मध्य और पश्चिमी एशिया
 - 2. अंटार्कटिका
 - 3. उत्तरी अमेरिका
 - 4. दक्षिण - पूर्व एशिया

Question ID : 26433086706
Status : Answered
Chosen Option : 1

Q.8 भारत में कानून बनाने के क्षेत्र में, कोई विधेयक तब तक अधिनियम नहीं बन जाता जब तक कि उसे _____ की सहमति प्राप्त नहीं हो जाती।

- Ans
- 1. उप राष्ट्रपति
 - 2. प्रधान मंत्री
 - 3. राष्ट्रपति
 - 4. महान्यायवादी

Question ID : 26433086846
Status : Answered
Chosen Option : 3

Q.9 2022 पैरालंपिक शीतकालीन खेल _____ में आयोजित किए गए थे।

- Ans
- 1. रूस
 - 2. चीन
 - 3. जापान
 - 4. भारत

Question ID : 264330115918

Status : Answered

Chosen Option : 2

Q.10 प्रोपाइन का रासायनिक सूत्र क्या है?

- Ans
- 1. C_3H_4
 - 2. C_4H_5
 - 3. C_3H_5
 - 4. C_4H_4

Question ID : 264330115158

Status : Not Answered

Chosen Option : --

Q.11 _____ में, बाबर ने पानीपत में इब्राहिम लोदी को हराया।

- Ans
- 1. 1528
 - 2. 1532
 - 3. 1530
 - 4. 1526

Question ID : 26433089190

Status : Answered

Chosen Option : 4

Q.12 नवंबर 2022 में की गई घोषणा के अनुसार, केंद्रीय रिजर्व पुलिस बल के कौन से क्षेत्र का नेतृत्व महानिरीक्षक सीमा धुंडिया द्वारा किया जाएगा?

- Ans
- 1. बिहार
 - 2. उत्तर प्रदेश
 - 3. झारखंड
 - 4. राजस्थान

Question ID : 264330114992

Status : Not Attempted and Marked For Review

Chosen Option : --

Q.13 विश्व के लगभग _____ देश वर्तमान में विश्व व्यापार संगठन के सदस्य हैं। (जून 2014 तक)

Ans 1. 160

2. 225

3. 198

4. 128

Question ID : 264330115387

Status : Answered

Chosen Option : 3

Q.14 सावित्रीबाई ने अपने पति ज्योतिराव फुले के साथ मिलकर पुणे के भिडे वाडा में लड़कियों के लिए भारत के पहले स्कूल की स्थापना _____ में की।

Ans 1. 1848

2. 1857

3. 1844

4. 1855

Question ID : 26433089886

Status : Answered

Chosen Option : 4

Q.15 निम्नलिखित में से किस वैज्ञानिक को भारत में हरित क्रांति के जनक के रूप में जाना जाता है?

Ans 1. सलीम अली

2. पी सी महालनोबिस

3. एम.एस. स्वामीनाथन

4. मेघनाद साहा

Question ID : 264330116148

Status : Answered

Chosen Option : 3

Q.16 नवंबर 2022 तक की स्थिति के अनुसार, निम्नलिखित में से कौन महाराष्ट्र, भारत के राज्यपाल हैं?

Ans 1. मंगूभाई छगनभाई पटेल

2. गणेश लाल माथुर

3. आरिफ मोहम्मद खान

4. भगत सिंह कोश्यारी

Question ID : 264330114923

Status : Answered

Chosen Option : 4

Q.17 ब्याज भुगतान, रक्षा सेवाएं, सब्सिडी, _____ व्यय की मुख्य मदें हैं।

- Ans
- 1. घरेलु
 - 2. गैर-योजनागत
 - 3. योजनागत
 - 4. अवशिष्ट

Question ID : 264330115289
Status : Answered
Chosen Option : 3

Q.18 होली रंगों का त्यौहार है, जिसे हिंदू माह _____ में मनाया जाता है।

- Ans
- 1. अश्विन
 - 2. फाल्गुन
 - 3. चैत्र
 - 4. कार्तिक

Question ID : 264330115099
Status : Answered
Chosen Option : 2

Q.19 _____ को 2016 में केरल कलामंडलम द्वारा 'कलारत्नम' और 2011 में केरल संगीत नाटक अकादमी द्वारा 'कलाश्री' से सम्मानित किया गया।

- Ans
- 1. एम आर कृष्णमूर्ति
 - 2. अनुराधा पाण्डेय
 - 3. जतिन गोस्वामी
 - 4. सुनंदा नायर

Question ID : 264330115868
Status : Answered
Chosen Option : 2

Q.20 भारतीय खाद्य निगम सरकार द्वारा घोषित _____ में किसानों से खाद्यान्न खरीदता है।

- Ans
- 1. रियायती मूल्य
 - 2. न्यूनतम समर्थन मूल्य
 - 3. प्रतिस्पर्धात्मक मूल्य
 - 4. अधिकतम खुदरा मूल्य

Question ID : 264330115536
Status : Answered
Chosen Option : 2

Q.1 यदि किसी शंकु की तिर्यक ऊँचाई और त्रिज्या क्रमशः 12 cm और 7 cm हैं, तो कुल पृष्ठीय क्षेत्रफल ज्ञात कीजिए।

- Ans
- 1. 481 cm²
 - 2. 448 cm²
 - 3. 418 cm²
 - 4. 841 cm²

Question ID : 26433073047

Status : Answered

Chosen Option : 3

Q.2 प्रमोद, अखिल और रमन एक कार्य को 14 दिनों में कर सकते हैं। अखिल और रमन समान कार्य 77 दिनों में कर सकते हैं। दिनों की संख्या ज्ञात करें जिसमें प्रमोद उसी कार्य को पूरा कर सकता है।

- Ans
- 1. 144/9 दिन
 - 2. 164/9 दिन
 - 3. 177/9 दिन
 - 4. 154/9 दिन

Question ID : 264330116898

Status : Answered

Chosen Option : 4

Q.3 अक्षित 10% की छूट देकर Rs.5,000 अंकित मूल्य वाला एक सूटकेस बेच रहा है, और यदि भुगतान नकद में किया जाता है, तो आगे 10% की छूट और प्रदान करता है।

एक ग्राहक ने अक्षित से सूटकेस खरीदा और उसे नकद में भुगतान किया। उसने अक्षित को कितनी धनराशि (Rs. में) का भुगतान किया?

- Ans
- 1. 4,500
 - 2. 4,050
 - 3. 4,150
 - 4. 4,200

Question ID : 26433080380

Status : Answered

Chosen Option : 2

Q.4 एक कस्बे की जनसंख्या 64,000 है, जिसमें प्रति वर्ष इसकी वर्तमान जनसंख्या के 1/8वें भाग के बराबर वृद्धि होती है। दो वर्ष बाद जनसंख्या कितनी होगी?

- Ans
- 1. 74000
 - 2. 78000
 - 3. 81000
 - 4. 72000

Question ID : 26433076040

Status : Answered

Chosen Option : 3

Q.5 एक टंकी में रिसाव के कारण, टंकी में 220 लीटर पानी बचा है, जिसमें मूल रूप से 240 लीटर पानी था। पानी की प्रतिशत हानि क्या है?

- Ans
- 1. 7.4 प्रतिशत
 - 2. 5.8 प्रतिशत
 - 3. 6.11 प्रतिशत
 - 4. 8.33 प्रतिशत

Question ID : 264330116818

Status : Answered

Chosen Option : 4

Q.6 एक दूधवाले ने Rs.1,630 में 90 लीटर दूध खरीदा और उसमें 15 लीटर पानी मिलाया। यदि वह इसे Rs.19.00 प्रति लीटर पर बेचता है, तो उसका लाभ प्रतिशत कितना होगा?

- Ans
- 1. $22\frac{64}{163}\%$
 - 2. $22\frac{14}{163}\%$
 - 3. $12\frac{64}{163}\%$
 - 4. $20\frac{64}{163}\%$

Question ID : 26433074988

Status : Answered

Chosen Option : 1

Q.7 $(a^4 - b^4)$, $(a^2 - ab)$ और $(a^2 + b^2)$ का चतुर्थानुपाती ज्ञात कीजिए।

- Ans
- 1. $(a + b)$
 - 2. $\frac{a}{a + b}$
 - 3. $\frac{b}{a + b}$
 - 4. $(a - b)$

Question ID : 26433075554

Status : Not Attempted and Marked For Review

Chosen Option : --

Q.8 $2,640 \text{ cm}^3$ आयतन और 21 cm ऊंचाई वाले एक बेलनाकार पात्र के आधार की त्रिज्या ज्ञात करें। ($\pi = \frac{22}{7}$

लें)

- Ans 1. 5.24 cm
 2. 6.32 cm
 3. 1.64 cm
 4. 2.46 cm

Question ID : 26433076255

Status : Answered

Chosen Option : 2

Q.9 रानू एक कार्य को 10 दिनों में पूरा कर सकती है जबकि रूबी उसी कार्य को 15 दिनों में पूरा कर सकती है। रानू से शुरू करते हुए, यदि वे एकांतर आधार पर एक-एक दिन कार्य करते हैं, तो पूरा कार्य कितने दिनों में समाप्त हो जाएगा?

- Ans 1. 11
 2. 12
 3. 14
 4. 13

Question ID : 26433080342

Status : Answered

Chosen Option : 2

Q.10 माता-पिता की औसत आयु 24 वर्ष है। उनके पुत्र की आयु पति की आयु की $\frac{1}{9}$ है। पत्नी पति से 6 वर्ष छोटी है। परिवार के तीनों सदस्यों की औसत आयु ज्ञात करें।

- Ans 1. 17 वर्ष
 2. 15 वर्ष
 3. 18 वर्ष
 4. 16 वर्ष

Question ID : 264330116696

Status : Answered

Chosen Option : 1

Q.11 P एक वृत्ताकार ट्रैक के एक चक्कर को पूरा करने में 12 मिनट लेता है और R उसी चक्कर को पूरा करने में 18 मिनट लेता है। यदि वे एक ही समय में एक ही बिंदु से एक ही दिशा में 12:30 p.m. पर चलना शुरू करते हैं, तो वे उसी बिंदु पर उसी दिन किस समय पर मिलेंगे?

- Ans 1. 2:18 p.m.
 2. 2:08 p.m.
 3. 2:38 p.m.
 4. 2:28 p.m.

Question ID : 26433071264

Status : Not Attempted and Marked For Review

Chosen Option : --

Q.12 $a^3 + a^2b + ab^2$, $a + b$ और $a^2 + ab + b^2$ का चतुर्थ अनुपातिक है।

Ans

✗ 1. $\frac{b}{a + b}$

✗ 2. $\frac{a}{a + b}$

✓ 3. $1 + \frac{b}{a}$

✗ 4. $1 + \frac{a}{b}$

Question ID : 26433081580

Status : Not Attempted and Marked For Review

Chosen Option : --

Q.13 एक कार यदि 30 km/h की चाल से चलती है, तो एक निश्चित दूरी तय करने में 5 घंटे का समय लेती है। उसी दूरी को 2.5 घंटे में तय करने के लिए कार की चाल क्या होनी चाहिए?

Ans ✗ 1. 40 km/h

✓ 2. 60 km/h

✗ 3. 50 km/h

✗ 4. 70 km/h

Question ID : 26433066366

Status : Answered

Chosen Option : 2

Q.14 यदि 12% वार्षिक की दर से 2 वर्ष का चक्रवृद्धि ब्याज Rs.1,908 है, जब ब्याज वार्षिक रूप से चक्रवृद्धि होता है, तो मूलधन ज्ञात कीजिए।

Ans ✓ 1. Rs.7,500

✗ 2. Rs.5,400

✗ 3. Rs.6,500

✗ 4. Rs.4,500

Question ID : 26433066315

Status : Answered

Chosen Option : 1

Q.15 2 प्राकृत संख्याओं का योग 140 होता है और उनका महत्तम समापवर्तक और लघुत्तम समापवर्त्य क्रमशः 28 और 168 है। संख्याओं के बीच पूर्ण अंतर ज्ञात करें।

- Ans
- 1. 14
 - 2. 7
 - 3. 28
 - 4. 21

Question ID : 264330116640
Status : Answered
Chosen Option : 3

Q.16 यदि y का $x\%$, 90 के $\frac{2}{3}$ के बराबर है, तो xy का मान ----- है।

- Ans
- 1. 60
 - 2. 100
 - 3. 90
 - 4. 6000

Question ID : 26433073004
Status : Answered
Chosen Option : 4

Q.17 यदि 45 और 50 छात्रों वाले दो बैचों के औसत अंक क्रमशः 78 और 65 हैं, तो सभी छात्रों के औसत अंक _____ हैं।

- Ans
- 1. $\frac{1252}{13}$
 - 2. $\frac{1152}{19}$
 - 3. $\frac{1352}{19}$
 - 4. $\frac{1052}{13}$

Question ID : 26433080100
Status : Answered
Chosen Option : 3

Q.18 किसी वस्तु का क्रय मूल्य और विक्रय मूल्य 5 : 3 के अनुपात में होने पर प्रतिशत हानि कितनी होगी?

- Ans
- 1. 60 प्रतिशत
 - 2. 30 प्रतिशत
 - 3. 50 प्रतिशत
 - 4. 40 प्रतिशत

Question ID : 26433079857
Status : Answered
Chosen Option : 4

Q.19 यदि 'a' और 'b' अभाज्य संख्याएँ हैं, तो निम्नलिखित में से क्या 'a' और 'b' का योग नहीं हो सकता है?
(जहाँ a तथा b भिन्न अभाज्य संख्याएँ हैं)

- Ans
- 1. 28
 - 2. 10
 - 3. 14
 - 4. 6

Question ID : 26433082609
Status : Answered
Chosen Option : 4

Q.20 एक दुकानदार अपने स्टोर की प्रत्येक वस्तु पर 18% की छूट देने की घोषणा करता है। Rs.5,583 लागत वाली एक वस्तु के लिए ग्राहक को कितने मूल्य (Rs. में, निकटतम पूर्णांक में पूर्णांकित) का भुगतान करना चाहिए?

- Ans
- 1. 3980
 - 2. 3650
 - 3. 4275
 - 4. 4578

Question ID : 26433075760
Status : Answered
Chosen Option : 4

Section : Part-D-English

Q.1 Select the most appropriate option that can substitute the underlined segment in the given sentence.

The manager's behaviour was the quintessence of professionalism.

- Ans
- 1. volatile aspect
 - 2. perfect example
 - 3. apparent display
 - 4. insignificant appearance

Question ID : 26433099877
Status : Not Answered
Chosen Option : --

Q.2 Select the most appropriate synonym of the given word.

Bliss

- Ans
- 1. Bane
 - 2. Educated
 - 3. Pain
 - 4. Joy

Question ID : 26433072184
Status : Not Answered
Chosen Option : --

Q.3 Select the INCORRECTLY spelt word.

- Ans 1. Artisen
 2. Technician
 3. Plumber
 4. Electrician

Question ID : 26433073498
Status : Not Answered
Chosen Option : --

Q.4 Select the most appropriate synonym of the given word.

Scared

- Ans 1. Confident
 2. Calm
 3. Reassured
 4. Frightened

Question ID : 26433073689
Status : Not Answered
Chosen Option : --

Q.5 In the following passage, some words have been deleted. Read the passage carefully and select the most appropriate option to fill in the blanks.

We all get goose bumps which are a reflex reaction by a human (1)_____ to a sudden drop in temperatures or feelings of panic, anger or extreme fear. They are also (2)_____ by itty-bitty muscles in our hair follicles.

- Ans 1. body; created
 2. shape; constructed
 3. figure; generated
 4. form; fabricated

Question ID : 26433084743
Status : Not Answered
Chosen Option : --

Q.6 Select the most appropriate synonym of the word given in brackets to fill in the blank.

Their relationship is quite _____ (cordial).

- Ans 1. artful
 2. formal
 3. warm
 4. hostile

Question ID : 26433084719
Status : Not Answered
Chosen Option : --

Q.7 Select the most appropriate ANTONYM of the given word.

Frankness

- Ans
- 1. Transparency
 - 2. Openness
 - 3. Strangeness
 - 4. Deception

Question ID : 26433073800
Status : Not Answered
Chosen Option : --

Q.8 Select the most appropriate word segment for the underlined word in the given sentence.

The wooden miniature that was being shown as the show stopper in the exhibition appealed to my father.

- Ans
- 1. on arrangement
 - 2. on advertisement
 - 3. on activity
 - 4. on display

Question ID : 26433088311
Status : Not Answered
Chosen Option : --

Q.9 Select the most appropriate meaning of the given idiom.

Pour out one's heart

- Ans
- 1. To create a record
 - 2. To express openly
 - 3. To ask for something
 - 4. To challenge

Question ID : 26433073704
Status : Not Answered
Chosen Option : --

Q.10 Parts of the following sentence have been given as options. One of them may contain an error. Select the part that contains the error from the given options. If you don't find any error, mark 'No error' as your answer.

An old man sit down and read his book on his lush green lawn.

- Ans
- 1. An old man sit down
 - 2. on his lush green lawn
 - 3. and read his book
 - 4. No error

Question ID : 26433092134
Status : Not Answered
Chosen Option : --

Q.11 Select the most appropriate homonym of the given word.

Flea

- Ans 1. Flee
 2. Flew
 3. Fly
 4. Fleece

Question ID : 26433086349
Status : Not Answered
Chosen Option : --

Q.12 Select the most appropriate ANTONYM of the given word.

Candid

- Ans 1. Blunt
 2. Simple
 3. Honest
 4. Tactful

Question ID : 26433085198
Status : Not Answered
Chosen Option : --

Q.13 Select the most appropriate ANTONYM of the given word.

Progressive

- Ans 1. Conservative
 2. Repeated
 3. Moving
 4. Scanty

Question ID : 26433072666
Status : Not Answered
Chosen Option : --

Q.14 Select the most appropriate meaning of the given idiom.

A chip on one's shoulder

- Ans 1. Injured shoulder
 2. An attitude that leads one to become easily angered
 3. Being appreciated
 4. Huge achievement

Question ID : 26433072437
Status : Not Answered
Chosen Option : --

Q.15 Parts of the given sentence have been given as options. One of them contains a spelling error. Select the option that rectifies the error.

Participating in intrnships is a great way to get a taste of changes taking place in the industry.

- Ans
- 1. particepating
 - 2. internships
 - 3. takeng
 - 4. indastry

Question ID : 26433072042

Status : Not Answered

Chosen Option : --

Comprehension:

In the following passage, some words have been deleted. Read the passage carefully and select the most appropriate option to fill in each blank.

Everybody (1)_____ of age, shape, size and ability needs to become more active every day. We should all be moving more. Did you know that an active life is (2)_____ for physical and mental health and well-being?

Regular physical activity can help (3)_____ our risk of cancer and type 2 diabetes, and conditions like obesity, hypertension and depression. Being active at every age (4)_____ the quality of life and everyone's chances of remaining healthy and (5)_____.

SubQuestion No : 16

Q.16 Select the most appropriate option to fill in blank number 1.

- Ans
- 1. careless
 - 2. senseless
 - 3. regardless
 - 4. no matter

Question ID : 26433088174

Status : Not Answered

Chosen Option : --

Comprehension:

In the following passage, some words have been deleted. Read the passage carefully and select the most appropriate option to fill in each blank.

Everybody (1)_____ of age, shape, size and ability needs to become more active every day. We should all be moving more. Did you know that an active life is (2)_____ for physical and mental health and well-being?

Regular physical activity can help (3)_____ our risk of cancer and type 2 diabetes, and conditions like obesity, hypertension and depression. Being active at every age (4)_____ the quality of life and everyone's chances of remaining healthy and (5)_____.

SubQuestion No : 17

Q.17 Select the most appropriate option to fill in blank number 2.

- Ans
- 1. primary
 - 2. particular
 - 3. organic
 - 4. essential

Question ID : 26433088175

Status : Not Answered

Chosen Option : --

Comprehension:

In the following passage, some words have been deleted. Read the passage carefully and select the most appropriate option to fill in each blank.

Everybody (1)_____ of age, shape, size and ability needs to become more active every day. We should all be moving more. Did you know that an active life is (2)_____ for physical and mental health and well-being?

Regular physical activity can help (3)_____ our risk of cancer and type 2 diabetes, and conditions like obesity, hypertension and depression. Being active at every age (4)_____ the quality of life and everyone's chances of remaining healthy and (5)_____.

SubQuestion No : 18

Q.18 Select the most appropriate option to fill in blank number 3.

- Ans
- 1. interpolate
 - 2. increase
 - 3. change
 - 4. decrease

Question ID : 26433088176

Status : Not Answered

Chosen Option : --

Comprehension:

In the following passage, some words have been deleted. Read the passage carefully and select the most appropriate option to fill in each blank.

Everybody (1)_____ of age, shape, size and ability needs to become more active every day. We should all be moving more. Did you know that an active life is (2)_____ for physical and mental health and well-being?

Regular physical activity can help (3)_____ our risk of cancer and type 2 diabetes, and conditions like obesity, hypertension and depression. Being active at every age (4)_____ the quality of life and everyone's chances of remaining healthy and (5)_____.

SubQuestion No : 19

Q.19 Select the most appropriate option to fill in blank number 4.

- Ans
- 1. increases
 - 2. manages
 - 3. decreases
 - 4. grows

Question ID : 26433088177

Status : Not Answered

Chosen Option : --

Comprehension:

In the following passage, some words have been deleted. Read the passage carefully and select the most appropriate option to fill in each blank.

Everybody (1)_____ of age, shape, size and ability needs to become more active every day. We should all be moving more. Did you know that an active life is (2)_____ for physical and mental health and well-being?

Regular physical activity can help (3)_____ our risk of cancer and type 2 diabetes, and conditions like obesity, hypertension and depression. Being active at every age (4)_____ the quality of life and everyone's chances of remaining healthy and (5)_____.

SubQuestion No : 20

Q.20 Select the most appropriate option to fill in blank number 5.

- Ans 1. automatic
 2. independent
 3. adamant
 4. awake

Question ID : 26433088178

Status : Not Answered

Chosen Option : --

Section : Part-D-Hindi

Q.1 संज्ञा या विशेषण के मेल से बनने वाली क्रिया प्रेरणार्थक क्रिया है। रेखांकित पद को बदल कर शुद्ध कीजिए।

- Ans 1. क्रियार्थक संज्ञा
 2. सहायक क्रिया
 3. नामबोधक क्रिया
 4. पूर्वकालिक क्रिया

Question ID : 26433063041

Status : Not Attempted and Marked For Review

Chosen Option : --

Q.2 'सूर्योदय _____।'।

उपर्युक्त वाक्य में रिक्त स्थान के लिए उपयुक्त विकल्प निम्न में से क्या होगा?

- Ans 1. का अर्थ सूर्य का प्रकाश होता है
 2. का अर्थ सूर्य की गर्मी से होता है
 3. का अर्थ सूर्य का उदय होना होता है
 4. का अर्थ सूर्य का छिपना होता है

Question ID : 26433067038

Status : Answered

Chosen Option : 3

Q.3 'ईश्वर के प्रति प्रगाढ़ एवं स्थायी आस्था का भाव _____ कहलाता है।' उपरोक्त वाक्य में रिक्त स्थान पर किस शब्द का प्रयोग सर्वाधिक उपयुक्त होगा?

- Ans
- 1. मुक्ति
 - 2. भक्ति
 - 3. आसक्ति
 - 4. विरक्ति

Question ID : 26433067006

Status : Not Attempted and Marked For Review

Chosen Option : --

Q.4 निम्न में से किरण के पर्यायवाची शब्द का चयन कीजिए।

- Ans
- 1. आभा
 - 2. धूमकेतु
 - 3. प्रभा
 - 4. ज्योति

Question ID : 26433074414

Status : Answered

Chosen Option : 4

Q.5 निम्नलिखित मुहावरे के सही अर्थ का चयन विकल्पों में से कीजिए।
पैरों में मेहंदी लगाकर बैठना

- Ans
- 1. मृत्यु को प्राप्त करना
 - 2. आलस्य और लाचारी वश घर में पड़े रहना
 - 3. लाभ का अवसर उठाना
 - 4. स्वावलंबी होना

Question ID : 26433070009

Status : Answered

Chosen Option : 2

Q.6 निम्न वाक्य में रेखांकित शब्द के विलोम शब्द से रिक्त स्थान की पूर्ति कीजिए।
राग और ____ दोनों विपरीत भाव हैं।

- Ans
- 1. रहित
 - 2. सराग
 - 3. रागी
 - 4. द्वेष

Question ID : 26433085075

Status : Answered

Chosen Option : 4

Q.7 निम्नलिखित वाक्यांश के लिए उपयुक्त सार्थक शब्द क्या होगा?
वह स्त्री जो वेदों का ज्ञान रखती हो

- Ans
- 1. ग्यात्ति
 - 2. विदुषी
 - 3. ज्ञानी
 - 4. विदूषक

Question ID : 26433073312

Status : Answered

Chosen Option : 2

Q.8 निम्नलिखित वाक्य में अशुद्धि पहचानें।
हमें हमेशा सच का साथ देना चाहिए।

- Ans
- 1. हमेशा
 - 2. हमें
 - 3. साथ
 - 4. चाहिए

Question ID : 26433066824

Status : Answered

Chosen Option : 1

Q.9 आकाश में बिजली चमक रही है।
उपरोक्त वाक्य में रेखांकित शब्द के उचित पर्यायवाची शब्द का चयन विकल्पों में से कीजिए।

- Ans
- 1. खनक
 - 2. वासव
 - 3. चपला
 - 4. धनद

Question ID : 26433079623

Status : Answered

Chosen Option : 3

Q.10 निम्न वाक्य को शुद्ध कीजिए।
तुम इस बार अधिक परिश्रम किए हो, इसलिए सफलता का अधिक आसा है।

- Ans
- 1. तुमने इस बार अधिक परिश्रम किया है, इसलिए सफलता की आशा है।
 - 2. तुमने इस बार अधिक परिश्रम के कारण सफलता मिलेगी।
 - 3. तुम अधिक परिश्रम किए हो, अतः सफलता की अधिक आशा है।
 - 4. तुमने बहुत परिश्रम किया है, इसलिए सफलता का आशा है।

Question ID : 26433063078

Status : Answered

Chosen Option : 1

Q.11 रेखांकित शब्द-समूह के लिए सर्वाधिक उपयुक्त विकल्प चुनें।
मेरा घर पर्वत के ऊपर की समतल भूमि पर है।

- Ans
- 1. तराई
 - 2. अधित्यका
 - 3. उपत्यका
 - 4. घाटी

Question ID : 26433062284
Status : Answered
Chosen Option : 3

Q.12 निम्नलिखित वाक्यांश के लिए सार्थक शब्द का चयन कीजिए।
जिसकी उपमा न हो

- Ans
- 1. अकथनीय
 - 2. उपमेय
 - 3. उपमान
 - 4. अनुपम

Question ID : 26433069979
Status : Answered
Chosen Option : 2

Q.13 निम्नलिखित विकल्पों में से 'चुल्लू-भर पानी में डूब मरना' मुहावरे का अर्थ क्या है?

- Ans
- 1. असफल साबित होना
 - 2. गर्व महसूस करना
 - 3. हताश होना
 - 4. शर्म या ग्लानि अनुभव करना

Question ID : 26433062553
Status : Answered
Chosen Option : 4

Q.14 गोलियों की बाढ़ हो गई।
उपरोक्त वाक्य में रेखांकित शब्द के स्थान पर उचित शब्द क्या होगा?

- Ans
- 1. बहार
 - 2. समुद्र
 - 3. बौछार
 - 4. घटा

Question ID : 26433062780
Status : Answered
Chosen Option : 3

Q.15 निम्नलिखित विकल्पों में से किस एक वाक्य में क्रिया सम्बन्धी अशुद्धि है?

- Ans
- 1. माँ बच्चे को खाना खिलाती है।
 - 2. बच्चा खाना खाता है।
 - 3. बच्चा पढ़ता है।
 - 4. कृपया एक गिलास पानी बुझाइए।

Question ID : 26433091234

Status : Answered

Chosen Option : 4

Comprehension:

निम्नलिखित गद्यांश में कुछ शब्दों को हटा दिया गया है। दिए गए विकल्पों की सहायता से रिक्त स्थानों की पूर्ति कीजिए। प्रत्येक संख्या के लिए सबसे उपयुक्त विकल्प का चयन कीजिए।

मनुष्य की पहचान उसके आचरण और 1. _____ से होती है। सात्विक व्यवहार तथा धर्म, नीति आदि की 2. _____ से किया जाने वाला अच्छा और शुभ आचरण 'सदाचार' है। इसके ठीक 3. _____ 'भ्रष्टाचार' शब्द है। जो मनुष्य दूषित और 4. _____ आचरण करता हो, वह भ्रष्टाचारी कहलाता है। भ्रष्टाचार एक प्रकार का 5. _____ विकार है।

SubQuestion No : 16

Q.16 रिक्त स्थान 1 की पूर्ति के लिए सबसे उपयुक्त विकल्प का चयन कीजिए।

- Ans
- 1. मित्र
 - 2. व्यवहार
 - 3. परिवार
 - 4. परमार्थ

Question ID : 264330111035

Status : Answered

Chosen Option : 2

Comprehension:

निम्नलिखित गद्यांश में कुछ शब्दों को हटा दिया गया है। दिए गए विकल्पों की सहायता से रिक्त स्थानों की पूर्ति कीजिए। प्रत्येक संख्या के लिए सबसे उपयुक्त विकल्प का चयन कीजिए।

मनुष्य की पहचान उसके आचरण और 1. _____ से होती है। सात्विक व्यवहार तथा धर्म, नीति आदि की 2. _____ से किया जाने वाला अच्छा और शुभ आचरण 'सदाचार' है। इसके ठीक 3. _____ 'भ्रष्टाचार' शब्द है। जो मनुष्य दूषित और 4. _____ आचरण करता हो, वह भ्रष्टाचारी कहलाता है। भ्रष्टाचार एक प्रकार का 5. _____ विकार है।

SubQuestion No : 17

Q.17 रिक्त स्थान 2 की पूर्ति के लिए सबसे उपयुक्त विकल्प का चयन कीजिए।

- Ans
- 1. संपत्ति
 - 2. सृष्टि
 - 3. दृष्टि
 - 4. कमी

Question ID : 264330111036

Status : Answered

Chosen Option : 3

Comprehension:

निम्नलिखित गद्यांश में कुछ शब्दों को हटा दिया गया है। दिए गए विकल्पों की सहायता से रिक्त स्थानों की पूर्ति कीजिए। प्रत्येक संख्या के लिए सबसे उपयुक्त विकल्प का चयन कीजिए।
मनुष्य की पहचान उसके आचरण और 1. _____ से होती है। सात्विक व्यवहार तथा धर्म, नीति आदि की 2. _____ से किया जाने वाला अच्छा और शुभ आचरण 'सदाचार' है। इसके ठीक 3. _____ 'भ्रष्टाचार' शब्द है। जो मनुष्य दूषित और 4. _____ आचरण करता हो, वह भ्रष्टाचारी कहलाता है। भ्रष्टाचार एक प्रकार का 5. _____ विकार है।

SubQuestion No : 18

Q.18 रिक्त स्थान 3 की पूर्ति के लिए सबसे उपयुक्त विकल्प का चयन कीजिए।

- Ans
- 1. अच्छी
 - 2. साथ
 - 3. मिली
 - 4. विपरीत

Question ID : 264330111037

Status : Answered

Chosen Option : 4

Comprehension:

निम्नलिखित गद्यांश में कुछ शब्दों को हटा दिया गया है। दिए गए विकल्पों की सहायता से रिक्त स्थानों की पूर्ति कीजिए। प्रत्येक संख्या के लिए सबसे उपयुक्त विकल्प का चयन कीजिए।
मनुष्य की पहचान उसके आचरण और 1. _____ से होती है। सात्विक व्यवहार तथा धर्म, नीति आदि की 2. _____ से किया जाने वाला अच्छा और शुभ आचरण 'सदाचार' है। इसके ठीक 3. _____ 'भ्रष्टाचार' शब्द है। जो मनुष्य दूषित और 4. _____ आचरण करता हो, वह भ्रष्टाचारी कहलाता है। भ्रष्टाचार एक प्रकार का 5. _____ विकार है।

SubQuestion No : 19

Q.19 रिक्त स्थान 4 की पूर्ति के लिए सबसे उपयुक्त विकल्प का चयन कीजिए।

- Ans
- 1. निंदनीय
 - 2. सम्मानित
 - 3. परमार्थी
 - 4. विवश

Question ID : 264330111038

Status : Answered

Chosen Option : 1

Comprehension:

निम्नलिखित गद्यांश में कुछ शब्दों को हटा दिया गया है। दिए गए विकल्पों की सहायता से रिक्त स्थानों की पूर्ति कीजिए। प्रत्येक संख्या के लिए सबसे उपयुक्त विकल्प का चयन कीजिए।
मनुष्य की पहचान उसके आचरण और 1. _____ से होती है। सात्विक व्यवहार तथा धर्म, नीति आदि की 2. _____ से किया जाने वाला अच्छा और शुभ आचरण 'सदाचार' है। इसके ठीक 3. _____ 'भ्रष्टाचार' शब्द है। जो मनुष्य दूषित और 4. _____ आचरण करता हो, वह भ्रष्टाचारी कहलाता है। भ्रष्टाचार एक प्रकार का 5. _____ विकार है।

SubQuestion No : 20

Q.20 रिक्त स्थान 5 की पूर्ति के लिए सबसे उपयुक्त विकल्प का चयन कीजिए।

- Ans
- 1. व्यवहारिक
 - 2. स्वस्थ
 - 3. मानसिक
 - 4. पारिवारिक

Question ID : 264330111039

Status : Answered

Chosen Option : 1

KD Job Updates

Constable GD in CAPFs SSF Rifleman GD in Assam Rifles and Sepoy in NCB Examination 2022

Roll Number	KD Job Updates
Candidate Name	KD Job Updates
Venue Name	iON Digital Zone iDZ 2 Sector 62
Exam Date	09/02/2023
Exam Time	11:45 AM - 12:45 PM
Subject	Constable GD Examination 2022

Section : Part-A-General Intelligence and Reasoning

Q.1 छः छात्र - पर्पल, ब्लैक, ग्रे, इंडिगो, सियान और येलो एक वृत्ताकार मेज के परितः मेज के केंद्र की ओर मुख करके बैठे हैं। पर्पल, ब्लैक के बाईं ओर ठीक बगल में बैठा है। सियान, ब्लैक के बाईं ओर तीसरे स्थान पर बैठा है। ग्रे, पर्पल और सियान के ठीक बगल में है। इंडिगो, ब्लैक के दाईं ओर दूसरे स्थान पर बैठा है। येलो, ग्रे के दाईं ओर तीसरे स्थान पर बैठा है। ग्रे और इंडिगो के बीच में कौन बैठा है?

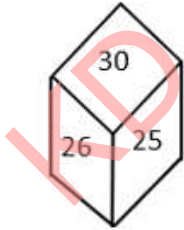
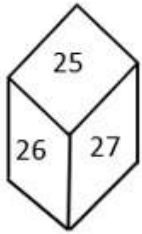
- Ans
- 1. पर्पल
 - 2. येलो
 - 3. सियान
 - 4. ब्लैक

Question ID : 26433081787

Status : Answered

Chosen Option : 3

Q.2 एक ही पासे की दो अलग-अलग स्थितियों को दिखाया गया है। '27' दर्शाने वाले फलक के विपरीत फलक पर संख्या ज्ञात कीजिए।



- Ans
- 1. 30
 - 2. 28
 - 3. 29
 - 4. 25

Question ID : 26433089510

Status : Answered

Chosen Option : 1

Q.3 उस विकल्प का चयन करें जो तिसरे पद से उसी प्रकार संबंधित है, जिस प्रकार दूसरा पद पहले पद से और छठा पद पांचवे पद से संबंधित है।
14 : 103 :: 16 : ? :: 18 : 167

Ans 1. 133

2. 135

3. 139

4. 140

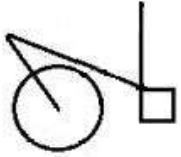
Question ID : 26433069092

Status : Answered

Chosen Option : 1

Q.4 निम्नलिखित विकल्पों में से उस आकृति का चयन करें जिसमें नीचे दी गई

आकृति निहित है (आकृति को घुमाने की अनुमति नहीं है)।

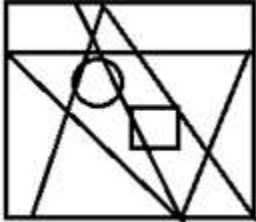


Ans


1.



2.



3.



4.



Question ID : 26433069540

Status : Answered

Chosen Option : 4

Q.5 निम्नलिखित में से कौन-सा अक्षर-समूह दी गई शृंखला में प्रश्न-चिह्न (?) के स्थान पर आएगा?
KPQZ, MNSX, OLUV, ?, SHYR

- Ans
- 1. QJVU
 - 2. RJVX
 - 3. QJWT
 - 4. QLWT

Question ID : 26433076432
Status : Answered
Chosen Option : 3

Q.6 दिए गए समीकरण को संतुलित करने के लिए विकल्पों में दी गई किन दो संख्याओं को परस्पर बदलना होगा?

$$180 \div 20 - 27 \div (6 \times 4 - 19) + 175 = 1$$

- Ans
- 1. 4 और 20
 - 2. 175 और 27
 - 3. 6 और 19
 - 4. 6 और 20

Question ID : 26433082486
Status : Answered
Chosen Option : 2

Q.7 कौन-सा अक्षर-समूह दी गई शृंखला में प्रश्नचिह्न (?) के स्थान पर आकर शृंखला को पूर्ण करेगा?
KMLN, PRQS, ?, ZBAC, EGFH

- Ans
- 1. UWXV
 - 2. WUVX
 - 3. UVWX
 - 4. UWVX

Question ID : 26433067724
Status : Answered
Chosen Option : 4

Q.8 तीन कथनों के बाद तीन निष्कर्ष I, II और III दिए गए हैं। कथनों को सत्य मानते हुए, भले ही वे सामान्य रूप से ज्ञात तथ्यों से भिन्न प्रतीत होते हों, निर्धारित करें कि कौन-सा/से निष्कर्ष, कथनों का तार्किक रूप से अनुसरण करता है/करते हैं।

कथन:

सभी ग्लव्स बेट हैं।

सभी स्टंप बेट हैं।

सभी बेट बॉल हैं।

निष्कर्ष:

I. सभी स्टंप ग्लव्स हैं।

II. कुछ बॉल ग्लव्स हैं।

III. कुछ बॉल स्टंप हैं।

- Ans
- 1. केवल निष्कर्ष I और III अनुसरण करते हैं
 - 2. केवल निष्कर्ष I और II अनुसरण करते हैं
 - 3. सभी निष्कर्ष अनुसरण करते हैं
 - 4. केवल निष्कर्ष II और III अनुसरण करते हैं

Question ID : 26433082309

Status : Answered

Chosen Option : 4

Q.9 किस विकल्प में निम्नलिखित शब्दों का वह क्रम दिया गया है, जिस क्रम में वे अंग्रेजी शब्दकोश में आते हैं?

1 drain

2 dried

3 dreamt

4 drown

5 drunk

- Ans
- 1. 1,2,3,4,5
 - 2. 2,3,1,4,5
 - 3. 1,4,3,5,2
 - 4. 1,3,2,4,5

Question ID : 26433069296

Status : Answered

Chosen Option : 4

Q.10 उस विकल्प का चयन कीजिए, जो पाँचवें पद से उसी प्रकार संबंधित है, जिस प्रकार दूसरा पद पहले पद से और चौथा पद तीसरे पद से संबंधित है।

MEND : KHLG :: STIR : QWGU :: DESK : ?

- Ans
- 1. AGQN
 - 2. BHQN
 - 3. BHPM
 - 4. AGPM

Question ID : 26433058008

Status : Answered

Chosen Option : 2

Q.11 एक कूट भाषा में 'ALMOND' को LAOMDN के रूप में कूटबद्ध किया जाता है और 'RAISIN' को ARSINI के रूप में कूटबद्ध किया जाता है। उसी भाषा में 'CASHEW' को किस प्रकार कूटबद्ध किया जाएगा?

- Ans
- 1. CAHSWE
 - 2. ACHSWE
 - 3. ACSHWE
 - 4. CASHWE

Question ID : 26433081084

Status : Answered

Chosen Option : 2

Q.12 निम्न में से कौन सी संख्या दी गई श्रृंखला में प्रश्नचिह्न (?) के स्थान पर आएगी?
56, 59, 68, ?, 176

- Ans
- 1. 102
 - 2. 89
 - 3. 138
 - 4. 95

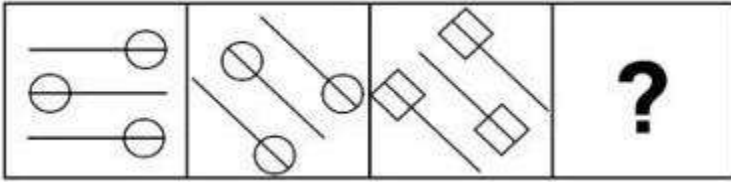
Question ID : 26433076746

Status : Answered

Chosen Option : 4

KD Job Updates

Q.13 वह विकल्प ज्ञात कीजिए जो तीसरी आकृति से उसी प्रकार संबंधित है जैसे दूसरी आकृति पहली आकृति से संबंधित है।
(पहला आकृति सबसे बाईं ओर की आकृति है।)



Ans

- ✗ 1.
- ✗ 2.
- ✓ 3.
- ✗ 4.

Question ID : 26433078863

Status : Answered

Chosen Option : 3

Q.14 एक निश्चित कूट भाषा में,
'A + B' का अर्थ है कि 'A, B का भाई है',
'A - B' का अर्थ है कि 'A, B की माता है',
'A × B' का अर्थ है कि 'A, B का पिता है' और
'A ÷ B' का अर्थ है कि 'A, B की बहन है'।
यदि $A \times G - T - N \div D + B$ है, तो निम्नलिखित में से कौन-सा कथन सही नहीं है?

- ✗ 1. A, T का पिता है।
- ✗ 2. D, T का पुत्र है।
- ✗ 3. A, N का नाना है।
- ✓ 4. G, B की दादी है।

Question ID : 26433070375

Status : Answered

Chosen Option : 1

Q.15 सात व्यक्ति A, B, C, D, E, F और G एक सीधी पंक्ति में उत्तर की ओर मुख करके बैठे हैं। A, D के बाईं ओर तीसरे स्थान पर बैठा है। D अंतिम दाएं सिरे पर बैठा है। A और F के बीच केवल दो व्यक्ति बैठे हैं। B, F के ठीक बगल में है। C और D के बीच केवल एक व्यक्ति बैठा है। G, A के ठीक बगल में नहीं है। B और A के बीच में कौन बैठा है?

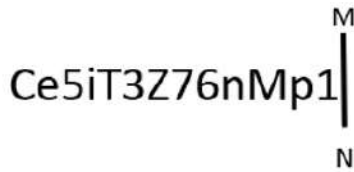
- Ans
- 1. C
 - 2. G
 - 3. E
 - 4. F

Question ID : 26433056929

Status : Answered

Chosen Option : 3

Q.16 दी गई आकृति के सही दर्पण प्रतिबिम्ब का चयन करें जब दर्पण को MN पर रखा जाए जैसा कि नीचे दर्शाया गया है।



Ans

- 1. 1pMnθ7Z3Eti2eθ
- 2. 1pMNθ7Z3Eti2eθ
- 3. 1pMnθ7Z3Eti2eθ
- 4. 1pMnθ7Z3Eti2eθ

Question ID : 26433085543

Status : Answered

Chosen Option : 4

Q.17 Select the option that is related to the third word in the same way as the second word is related to the first word.

(The words must be considered as meaningful English words and must not be related to each other based on the number of letters/number of consonants/vowels in the word)

Soft : Hard :: Create : ?

- Ans
- 1. Destroy
 - 2. Maintain
 - 3. Building
 - 4. Save

Question ID : 26433079478

Status : Answered

Chosen Option : 1

Q.18 निम्नलिखित में से कौन-सी संख्याएं दी गई श्रृंखला में प्रश्न-चिह्नों (?) के स्थान पर आएंगी?
229, 230, 232, ?, 244, ?, 292

- Ans 1. 236, 260
 2. 240, 280
 3. 238, 268
 4. 239, 270

Question ID : 26433070224

Status : Answered

Chosen Option : 1

Q.19 नीचे दिए गए समीकरण को गणितीय रूप से सही बनाने के लिए किन दो चिह्नों को परस्पर बदलना चाहिए?

$$135 \div 15 \times 54 + 6 - 18 = 252$$

- Ans 1. ÷ और ×
 2. + और ×
 3. + और -
 4. ÷ और +

Question ID : 264330117528

Status : Answered

Chosen Option : 4

Q.20 किसी निश्चित कूट भाषा में, 'berry mango' को, 'xi xa' के रूप में कूटबद्ध किया जाता है, 'alpha berry tango' को, 'cun xi our' के रूप में कूटबद्ध किया जाता है, 'mango alpha' को, 'xa cun' के रूप में कूटबद्ध किया जाता है और 'berry tango' को, 'xi our' के रूप में कूटबद्ध किया जाता है। 'alpha' शब्द का कूट क्या है?

- Ans 1. xa
 2. cun
 3. xi
 4. our

Question ID : 26433069039

Status : Answered

Chosen Option : 2

Section : Part-B-General Knowledge and General awareness

Q.1 संस्कृति मंत्रालय ने देश के लिए पिंगली वैकैया के योगदान का उत्सव मनाने के लिए _____, 2022 को "तिरंगा उत्सव" का आयोजन किया।

- Ans 1. 2 अगस्त
 2. 5 सितंबर
 3. 1 जुलाई
 4. 9 मई

Question ID : 264330115103

Status : Not Answered

Chosen Option : --

Q.2 भारतीय संविधान का कौन सा अनुच्छेद राष्ट्रपति और उपराष्ट्रपति के निर्वाचन से संबंधित या संसक्त विषय से संबंधित है?

- Ans
- 1. 69
 - 2. 70
 - 3. 71
 - 4. 68

Question ID : 264330115661
Status : Answered
Chosen Option : 4

Q.3 नवंबर 2022 तक की स्थिति के अनुसार, निम्नलिखित में से कौन केरल, भारत के राज्यपाल हैं?

- Ans
- 1. भगत सिंह कोश्यारी
 - 2. आरिफ मोहम्मद खान
 - 3. मंगूभाई छगनभाई पटेल
 - 4. गणेश लाल माधुर

Question ID : 264330114927
Status : Answered
Chosen Option : 2

Q.4 Exports in excess of imports result in trade _____.

- Ans
- 1. surplus
 - 2. zero budget
 - 3. deficit
 - 4. liability

Question ID : 264330115391
Status : Not Answered
Chosen Option : --

Q.5 2022 के राष्ट्रपति चुनाव में द्रौपदी मुर्मू की प्रतिद्वंदी कौन थे?

- Ans
- 1. यशवंत सिन्हा
 - 2. प्रणब मुखर्जी
 - 3. मल्लिकार्जुन खड़गे
 - 4. शशि थरूर

Question ID : 264330115018
Status : Answered
Chosen Option : 1

Q.6 निम्नलिखित में से कौन सी ट्रॉफी महिला बैडमिंटन से संबंधित है?

- Ans
- 1. उबेर कप
 - 2. FIFA विश्व कप
 - 3. आगा खान कप
 - 4. डेविस कप

Question ID : 264330116273

Status : Answered

Chosen Option : 3

Q.7 What best defines prokaryotic cells?

I. Single chromosome

II. Membrane-bound cell organelles absent

- Ans
- 1. Neither I nor II
 - 2. Only I
 - 3. Both I and II
 - 4. Only II

Question ID : 264330115238

Status : Not Answered

Chosen Option : --

Q.8 'माता-पिता या अभिभावक द्वारा अपने बच्चे या अपने प्रतिपाल्य को शिक्षा के अवसर प्रदान करना', इस कर्तव्य को किस संविधान संशोधन अधिनियम द्वारा मौलिक कर्तव्यों में शामिल किया गया था?

- Ans
- 1. 84 वें
 - 2. 83वें
 - 3. 85 वें
 - 4. 86वें

Question ID : 264330115633

Status : Answered

Chosen Option : 2

Q.9 निम्नलिखित में से कौन-सा भारतीय राज्य बांग्लादेश और म्यांमार दोनों के साथ सीमा साझा करता है?

- Ans
- 1. मिज़ोरम
 - 2. मणिपुर
 - 3. नागालैंड
 - 4. असम

Question ID : 264330116097

Status : Answered

Chosen Option : 1

Q.10 मार्च 1919 में एक खिलाफ़त समिति का गठन _____ में किया गया था।

- Ans
- 1. अमृतसर
 - 2. कलकत्ता
 - 3. बंबई
 - 4. दिल्ली

Question ID : 26433090587

Status : Answered

Chosen Option : 1

Q.11 _____ is an example of plastic money.

- Ans
- 1. Hard cash
 - 2. Legal tender
 - 3. Coins
 - 4. Credit card

Question ID : 264330115315

Status : Answered

Chosen Option : 4

Q.12 नृत्य-नाटक, गवरी, भारत के निम्नलिखित में से किस राज्य में प्रमुख रूप से अभिनीत किया जाता है?

- Ans
- 1. ओडिशा
 - 2. केरल
 - 3. राजस्थान
 - 4. मणिपुर

Question ID : 26433071486

Status : Answered

Chosen Option : 3

Q.13 The chemical name of Blue Vitriol is _____.

- Ans
- 1. Sulphuric Acid
 - 2. Copper Sulphate
 - 3. Sodium Hydroxide
 - 4. Zinc Sulphate

Question ID : 264330115162

Status : Not Answered

Chosen Option : --

Q.14 निम्न में से किसे लोक और जनजातीय नृत्य में उनके योगदान के लिए संगीत नाटक अकादमी पुरस्कार और मध्य प्रदेश सरकार द्वारा तुलसी सम्मान से सम्मानित किया गया है?

- Ans
- 1. वेम्पति चिन्ना सत्यम
 - 2. जिया मोहिउद्दीन डागर
 - 3. अर्जुन सिंह धुर्वे
 - 4. महबूब सुभानी

Question ID : 264330115859
Status : Not Answered
Chosen Option : --

Q.15 सरकार की लाइसेंस नीति का मुख्य उद्देश्य _____ को बढ़ावा देना था।

- Ans
- 1. छोटे राज्यों में स्कूलों और अस्पतालों का विकास
 - 2. पूर्वोत्तर राज्यों में रोजगार
 - 3. क्षेत्रीय समानता
 - 4. भारत के दक्षिणी भाग में वस्त्र उद्योगों का विकास

Question ID : 26433054779
Status : Answered
Chosen Option : 1

Q.16 निम्नलिखित में से किस मौर्य शासक ने बौद्ध धर्म के प्रचार-प्रसार का बीड़ा उठाया था?

- Ans
- 1. बिंदुसार
 - 2. अशोक
 - 3. देववर्मन
 - 4. सम्प्रति

Question ID : 26433089857
Status : Not Answered
Chosen Option : --

Q.17 _____ खातों में कोई न्यूनतम शेष राशि बनाए रखने की कोई आवश्यकता नहीं है।

- Ans
- 1. जन कल्याण योजना
 - 2. प्रधानमंत्री जन धन योजना
 - 3. प्रधान सेवक जन धन योजना
 - 4. प्रधानमंत्री जन जन योजना

Question ID : 264330116205
Status : Answered
Chosen Option : 2

Q.18 वह पथ जो प्रशांत महासागर के साथ-साथ लगाकर है, जहां सक्रिय ज्वालामुखी पाएँ जाते हैं और वहाँ बार-बार भूकंप आते रहते हैं, उसे क्या नाम दिया गया है?

- Ans
- 1. ज्वाला-वृत्त (Ring of Fire)
 - 2. बरमूडा ट्राइंगल (Bermuda Triangle)
 - 3. ड्रेक जलमार्ग (Drake Passage)
 - 4. केप हॉर्न (Cape Horn)

Question ID : 264330115998
Status : Answered
Chosen Option : 1

Q.19 Which year among the following did India host the Commonwealth Games?

- Ans
- 1. 2012
 - 2. 2010
 - 3. 2014
 - 4. 2008

Question ID : 264330115922
Status : Answered
Chosen Option : 1

Q.20 नवंबर 2022 में, किस रेलवे स्टेशन को 4-स्टार रेटिंग के साथ 'ईट राइट स्टेशन' प्रमाणन से सम्मानित किया गया?

- Ans
- 1. भोपाल जंक्शन रेलवे स्टेशन
 - 2. हावड़ा जंक्शन रेलवे स्टेशन
 - 3. छत्रपति शिवाजी टर्मिनस
 - 4. नई दिल्ली रेलवे स्टेशन

Question ID : 264330115562
Status : Answered
Chosen Option : 3

Section : Part-C-Elementary Mathematics

Q.1 ऐसे 45 डिब्बे हैं जिनका औसत भार 52 g है। कुछ डिब्बे नीले हैं, जबकि अन्य हरे हैं। यदि 40 g के औसत भार वाले पांच नीले डिब्बे और 43 g के औसत भार वाले आठ हरे डिब्बे शामिल किए जाते हैं, तो अब औसत भार (g में) क्या है?

- Ans
- 1. 49.72
 - 2. 51.25
 - 3. 52.5
 - 4. 52.25

Question ID : 26433081637
Status : Not Answered
Chosen Option : --

Q.2 एक दुकान में ₹1,00,000 का बिल हुआ। 30% की एक छूट और 25% और 5% की दो क्रमिक छूटों के बीच का अंतर क्या होगा?

- Ans
- 1. ₹1,520
 - 2. ₹1,025
 - 3. ₹1,250
 - 4. ₹1,205

Question ID : 26433082791

Status : Answered

Chosen Option : 3

Q.3 यदि 8% वार्षिक की दर से 2 वर्ष के लिए उधार ली गई एक निश्चित धनराशि पर साधारण ब्याज और वार्षिक चक्रवृद्धि आधार पर गणना किए गए चक्रवृद्धि ब्याज के बीच का अंतर ₹512 है, तो उधार ली गई धनराशि (₹ में) ज्ञात करें।

- Ans
- 1. ₹1,200
 - 2. ₹62,100
 - 3. ₹2,100
 - 4. ₹80,000

Question ID : 26433079953

Status : Answered

Chosen Option : 4

Q.4 R एक पेंटिंग कार्य को 12 दिनों में पूरा कर सकता है। दो सहायकों की मदद से वह इसे 8 दिनों में पूरा कर सकता है। अकेले एक सहायक द्वारा कार्य को कितने दिनों में पूरा किया जाएगा?

- Ans
- 1. 42
 - 2. 48
 - 3. 24
 - 4. 36

Question ID : 26433066180

Status : Answered

Chosen Option : 2

Q.5 What is the mean proportional between 121 and 169?

- Ans
- 1. 153
 - 2. 157
 - 3. 143
 - 4. 147

Question ID : 26433075664

Status : Not Answered

Chosen Option : --

Q.6 एक व्यापारी ने 20% की छूट देने के बाद, 20% का लाभ प्राप्त करने के लिए अपने माल पर मूल्य अंकित किया। अंकित मूल्य, क्रय मूल्य से कितना प्रतिशत अधिक है?

- Ans 1. 50%
 2. 35%
 3. 40%
 4. 20%

Question ID : 26433080240

Status : Answered

Chosen Option : 1

Q.7 जॉन और तन्वी की आयु का अनुपात 8:15 है। 9 वर्ष बाद, उनकी आयु का अनुपात 11:18 हो जाएगा। उनकी आयु के बीच कितना अंतर (वर्षों में) है?

- Ans 1. 45 years
 2. 24 years
 3. 7 years
 4. 21 years

Question ID : 26433073127

Status : Answered

Chosen Option : 4

Q.8 What is the volume of a hemisphere with radius 2.8 cm? (Use $\pi = \frac{22}{7}$) (Rounded up to three places of decimal).

- Ans 1. 38.268 cm³
 2. 28 cm³
 3. 45.995 cm³
 4. 41 cm³

Question ID : 26433075174

Status : Not Attempted and Marked For Review

Chosen Option : --

Q.9 एक डीलर ₹50,000 में 50 कुर्सियाँ खरीदता है, लेकिन उनमें से 20 कुर्सियाँ खराब निकल जाती हैं। वह प्रत्येक खराब कुर्सी को उसकी सामान्य कीमत के $\frac{3}{4}$ पर बेचने का फैसला करता है। कुर्सी की सामान्य कीमत कितनी होनी चाहिए जिससे उसे पूरे लेन-देन में 35% का लाभ हो?

- Ans 1. Rs.5,000
 2. Rs.6,750
 3. Rs.1,500
 4. Rs.1,125

Question ID : 26433073124

Status : Not Answered

Chosen Option : --

Q.10 शांत जल में एक नाव की चाल 8 km/h है और धारा की चाल 2 km/h है। एक व्यक्ति 90 km की दूरी पर स्थित एक स्थान पर नाव से जाता है और प्रारंभिक बिंदु पर वापस आ जाता है। इस दोतरफा आवागमन में उसे कुल कितना समय लगा?

- Ans
- 1. 30 hours
 - 2. 21 hours
 - 3. 20 hours
 - 4. 24 hours

Question ID : 26433076234
Status : Answered
Chosen Option : 1

Q.11 किसी गाँव की जनसंख्या 68000 है। इसमें पहले वर्ष में 5 प्रतिशत की दर से वृद्धि होती है और अगले 2 वर्ष में 10 प्रतिशत वार्षिक दर से कमी होती है। 3 वर्ष बाद गाँव की जनसंख्या कितनी होगी?

- Ans
- 1. 62823
 - 2. 57834
 - 3. 60832
 - 4. 56840

Question ID : 26433079882
Status : Answered
Chosen Option : 2

Q.12 जब किसी संख्या के 40 प्रतिशत में से 40 घटाया जाता है तो शेषफल 40 प्राप्त होता है। वह संख्या ज्ञात करें।

- Ans
- 1. 100
 - 2. 150
 - 3. 300
 - 4. 200

Question ID : 26433079856
Status : Answered
Chosen Option : 4

Q.13 36 और 45 से विभाज्य 4-अंकीय सबसे बड़ी संख्या को 10,000 में से घटाया जाता है। परिणाम ज्ञात करें।

- Ans
- 1. 180
 - 2. 100
 - 3. 120
 - 4. 150

Question ID : 264330116644
Status : Answered
Chosen Option : 2

Q.14 एक संख्या के 110% और समान संख्या के 94.5% के बीच का अंतर 34.1 है। वास्तविक संख्या क्या है?

Ans 1. 134

2. 220

3. 190

4. 110

Question ID : 264330116809

Status : Answered

Chosen Option : 2

Q.15 दो अलग-अलग रोड क्रॉसिंग पर ट्रैफिक लाइट क्रमशः प्रत्येक 54 सेकंड और 76 सेकंड के बाद बदल जाती है। यदि वे 10:15:00 बजे एक साथ बदलते हैं, तो पता करें कि अगली बार वे एक साथ किस समय बदलेंगी।

Ans 1. 10:59:12 बजे

2. 10:49:12 बजे

3. 10:52:34 बजे

4. 10:34:12 बजे

Question ID : 26433082604

Status : Answered

Chosen Option : 2

Q.16 P, Q और R अलग-अलग काम करते हुए एक कार्य को क्रमशः 50, 100 और 300 दिनों में पूरा कर सकते हैं। यदि वे बारी-बारी से एक-एक दिन काम करते हैं, P पहले दिन कार्य करता है, Q दूसरे दिन कार्य करता है, R तीसरे दिन कार्य करता है तथा फिर से P चौथे दिन कार्य करता है और इसी क्रम में आगे बढ़ते हैं, तो कार्य कितने दिनों में पूरा होगा?

Ans 1. 50 दिन

2. 90 दिन

3. 60 दिन

4. 40 दिन

Question ID : 264330116889

Status : Answered

Chosen Option : 2

Q.17 एक कक्षा में 80 विद्यार्थी हैं। लड़कियों का औसत वजन 40 kg है तथा लड़कों का औसत वजन 50 kg है। यदि लड़कों की संख्या 50 है, तो कक्षा का औसत वजन क्या होगा?

Ans 1. 47.75 kg

2. 48.25 kg

3. 45.5 kg

4. 46.25 kg

Question ID : 26433082495

Status : Answered

Chosen Option : 4

Q.18 एक नाव शांत जल में 30 km/h की चाल से यात्रा कर सकती है। यदि धारा के प्रवाह की चाल 2 km/h है, तो नाव को धारा के विपरीत दिशा में 56 km की यात्रा करने में कितना समय लगेगा?

- Ans
- ✓ 1. 2 घंटे
 - ✗ 2. $\frac{28}{15}$ घंटे
 - ✗ 3. 28 घंटे
 - ✗ 4. 3 घंटे

Question ID : 26433071337

Status : Answered

Chosen Option : 1

Q.19 10%, 30% और 25% की क्रमिक छूट कितनी एकल छूट के बराबर है? (निकटतम पूर्ण संख्या तक पूर्णांकित)

- Ans
- ✗ 1. 47%
 - ✓ 2. 53%
 - ✗ 3. 55%
 - ✗ 4. 65%

Question ID : 26433083040

Status : Answered

Chosen Option : 2

Q.20 A heap of wheat is in the form of a cone of diameter 30 m and height 8 m. How much canvas cloth will be required to just cover the heap (take $\pi = 3.14$)?

- Ans
- ✗ 1. 900.9 m²
 - ✗ 2. 900.8 m²
 - ✗ 3. 700.8 m²
 - ✓ 4. 800.7 m²

Question ID : 26433075522

Status : Answered

Chosen Option : 2

Q.1 Select the most appropriate option to fill in the blank.
The audience was asked to dress _____, since it was a formal occasion at the Royal Palace.

- Ans** 1. appropriately
 2. gaudily
 3. casually
 4. informally

Question ID : 26433085596
Status : Answered
Chosen Option : 3

Q.2 Choose the option that can substitute the underlined segment correctly and complete the meaning of the sentence.

Our possessions and other items, while travelling to Europe last year, was misplaced by the travelling agency.

- Ans** 1. Goods
 2. Luggage
 3. Cases
 4. Kit

Question ID : 26433088881
Status : Answered
Chosen Option : 1

Q.3 Select the most appropriate option to fill in the blank.

I was looking forward to a _____ evening at home.

- Ans** 1. quite
 2. quote
 3. quit
 4. quiet

Question ID : 26433088235
Status : Answered
Chosen Option : 1

Q.4 Select the most appropriate meaning of the given idiom.

A slap on the wrist

- Ans** 1. A tiny gift
 2. A secret alliance
 3. A wrist watch
 4. A small punishment

Question ID : 26433073476
Status : Answered
Chosen Option : 4

Q.5 Select the most appropriate synonym of the given word.

Frantic

- Ans
- 1. Loyal
 - 2. Lazy
 - 3. Gentle
 - 4. Violent

Question ID : 26433074047
Status : Answered
Chosen Option : 1

Q.6 Select the most appropriate synonym of the word given in brackets to fill in the blank.

A real warrior does not _____ (surrender) to his enemies.

- Ans
- 1. cooperate
 - 2. smile
 - 3. yield
 - 4. expose

Question ID : 26433070467
Status : Answered
Chosen Option : 4

Q.7 Select the most appropriate ANTONYM of the given word.

Dismal

- Ans
- 1. Candid
 - 2. Frantic
 - 3. Horrible
 - 4. Intelligent

Question ID : 26433073988
Status : Answered
Chosen Option : 1

Q.8 Select the INCORRECTLY spelt word.

- Ans
- 1. Aalign
 - 2. Fantastic
 - 3. Mirror
 - 4. Secretly

Question ID : 26433085206
Status : Answered
Chosen Option : 1

Q.9 Select the most appropriate meaning of the underlined idiom in the given sentence.

He had to bite the bullet when the doctor told him that his injured foot had to be amputated.

- Ans
- 1. Expedite the procedure
 - 2. Commit suicide
 - 3. Refuse to do something
 - 4. To accept a difficult or unpleasant situation

Question ID : 26433072089

Status : Answered

Chosen Option : 4

Q.10 A part of the given sentence which has been underlined may contain a spelling error. Select the option that correctly rectifies the spelling error. If there is no error, select 'No error'.

The doctor prescribed to put the patient in quarrantine for a few days.

- Ans
- 1. Quarantintine
 - 2. No error
 - 3. Qurantine
 - 4. Quarantine

Question ID : 26433071789

Status : Answered

Chosen Option : 4

Q.11 Select the most appropriate ANTONYM of the underlined word to fill in the blank.

The people of that remote island, who were considered savage by many were actually _____ islanders.

- Ans
- 1. civilised
 - 2. mobilised
 - 3. efficient
 - 4. organised

Question ID : 26433091846

Status : Not Answered

Chosen Option : --

Q.12 Select the most appropriate synonym for the underlined word in the given sentence.

Those unwilling to capitulate to the new Chancellor's demands will be ruthlessly fired.

- Ans
- 1. listen
 - 2. surrender
 - 3. torture
 - 4. believe

Question ID : 26433073750

Status : Not Answered

Chosen Option : --

Q.13 Select the most appropriate ANTONYM of the given word.

Silent

- Ans
- 1. Mute
 - 2. Utterable
 - 3. Noisy
 - 4. Mum

Question ID : 26433072810
Status : Answered
Chosen Option : 3

Q.14 Select the option that contains a grammatical error in the underlined portion.

I had take a vow of celibacy which was a part of my training while I was in the temple.

- Ans
- 1. I had take a vow of celibacy which was a part of my training while I was in the temple.
 - 2. I had take a vow of celibacy which was a part of my training while I was in the temple.
 - 3. I had take a vow of celibacy which was a part of my training while I was in the temple.
 - 4. I had take a vow of celibacy which was a part of my training while I was in the temple.

Question ID : 26433088593
Status : Answered
Chosen Option : 2

Q.15 Select the most appropriate option to substitute the underlined segment in the given sentence. If no substitution is required, select 'No substitution'.

Do you have to stay home last week?

- Ans
- 1. No substitution
 - 2. Does you have
 - 3. Did you have
 - 4. Have you had

Question ID : 26433099060
Status : Answered
Chosen Option : 3

Comprehension:

In the following passage, some words have been deleted. Read the passage carefully and select the most appropriate option to fill in each blank.

A flood occurs when water overflows its natural (1) _____ and lands on typically dry ground. Floods have always been an (2) _____ component of life on the planet. A legend about a (3) _____ flood exists in almost every civilisation. Many people have (4) _____ to live near bodies of water in order to have access to transportation routes, fishing, and water for drinking, farming, and industry. The majority of the world's major cities are (5) _____ on or near oceans, lakes, or rivers.

SubQuestion No : 16

Q.16 Select the most appropriate option to fill in blank number 1.

- Ans
- 1. currents
 - 2. streams
 - 3. barriers
 - 4. volumes

Question ID : 26433088521

Status : Answered

Chosen Option : 1

Comprehension:

In the following passage, some words have been deleted. Read the passage carefully and select the most appropriate option to fill in each blank.

A flood occurs when water overflows its natural (1) _____ and lands on typically dry ground. Floods have always been an (2) _____ component of life on the planet. A legend about a (3) _____ flood exists in almost every civilisation. Many people have (4) _____ to live near bodies of water in order to have access to transportation routes, fishing, and water for drinking, farming, and industry. The majority of the world's major cities are (5) _____ on or near oceans, lakes, or rivers.

SubQuestion No : 17

Q.17 Select the most appropriate option to fill in blank number 2.

- Ans
- 1. evitable
 - 2. unavoidable
 - 3. accessible
 - 4. amendable

Question ID : 26433088522

Status : Answered

Chosen Option : 2

Comprehension:

In the following passage, some words have been deleted. Read the passage carefully and select the most appropriate option to fill in each blank.

A flood occurs when water overflows its natural (1) _____ and lands on typically dry ground. Floods have always been an (2) _____ component of life on the planet. A legend about a (3) _____ flood exists in almost every civilisation. Many people have (4) _____ to live near bodies of water in order to have access to transportation routes, fishing, and water for drinking, farming, and industry. The majority of the world's major cities are (5) _____ on or near oceans, lakes, or rivers.

SubQuestion No : 18**Q.18 Select the most appropriate option to fill in blank number 3.**

- Ans 1. huge
 2. controlled
 3. induced
 4. limit

Question ID : 26433088523

Status : Answered

Chosen Option : 1

Comprehension:

In the following passage, some words have been deleted. Read the passage carefully and select the most appropriate option to fill in each blank.

A flood occurs when water overflows its natural (1) _____ and lands on typically dry ground. Floods have always been an (2) _____ component of life on the planet. A legend about a (3) _____ flood exists in almost every civilisation. Many people have (4) _____ to live near bodies of water in order to have access to transportation routes, fishing, and water for drinking, farming, and industry. The majority of the world's major cities are (5) _____ on or near oceans, lakes, or rivers.

SubQuestion No : 19**Q.19 Select the most appropriate option to fill in blank number 4.**

- Ans 1. conquered
 2. left
 3. avoided
 4. chosen

Question ID : 26433088524

Status : Answered

Chosen Option : 3

Comprehension:

In the following passage, some words have been deleted. Read the passage carefully and select the most appropriate option to fill in each blank.

A flood occurs when water overflows its natural (1) _____ and lands on typically dry ground. Floods have always been an (2) _____ component of life on the planet. A legend about a (3) _____ flood exists in almost every civilisation. Many people have (4) _____ to live near bodies of water in order to have access to transportation routes, fishing, and water for drinking, farming, and industry. The majority of the world's major cities are (5) _____ on or near oceans, lakes, or rivers.

SubQuestion No : 20

Q.20 Select the most appropriate option to fill in blank number 5.

- Ans
- 1. confiscated
 - 2. endangered
 - 3. banned
 - 4. located

Question ID : 26433088525

Status : Answered

Chosen Option : 4

Section : Part-D-Hindi

Q.1 'कान काटना' मुहावरे का सही अर्थ है-

- Ans
- 1. आसानी से कहने में आ जाना
 - 2. झूठ बोलना
 - 3. किसी की चुगली करना
 - 4. चालाकी में आगे होना

Question ID : 26433065925

Status : Not Answered

Chosen Option : --

Q.2 निम्नलिखित विकल्पों में से 'नवीन बनाने की क्रिया' वाक्यांश के लिए एक सार्थक शब्द क्या होगा?

- Ans
- 1. आर्थिक
 - 2. सर्वमत
 - 3. परम्परावादी
 - 4. आधुनिकीकरण

Question ID : 26433062470

Status : Not Answered

Chosen Option : --

Q.3 कौन से विकल्प में दिए गए सभी शब्द रीतिवाचक क्रिया विशेषण के उदाहरण हैं?

- Ans
- 1. आज, आजकल, प्रतिदिन
 - 2. ज्योंही, तक, पर
 - 3. ऊपर, नीचे, बाहर
 - 4. केवल, कदाचित, शायद

Question ID : 26433063051

Status : Not Answered

Chosen Option : --

Q.4 निम्नलिखित वाक्य में रेखांकित खंड के स्थान पर प्रयुक्त होने वाले सबसे उपयुक्त विकल्प का चयन कीजिए।

प्लेट में अंगूर का झुंड रखा है।

- Ans
- 1. गुच्छा
 - 2. छल्ला
 - 3. दल
 - 4. समूह

Question ID : 26433079566

Status : Not Answered

Chosen Option : --

Q.5 निम्न वाक्यांश के लिए एक शब्द क्या होगा?
जो किये हुए उपकार को मानता है

- Ans
- 1. कृतार्थ
 - 2. कृतकृत्य
 - 3. कृतघ्न
 - 4. कृतज्ञ

Question ID : 26433070099

Status : Not Answered

Chosen Option : --

Q.6 निम्नलिखित मुहावरे का उपयुक्त अर्थ क्या होगा?
चट कर जाना

- Ans
- 1. खा जाना
 - 2. मर जाना
 - 3. सो जाना
 - 4. घूस लेना

Question ID : 26433065767

Status : Not Answered

Chosen Option : --

Q.7 मैंने गुलाब का पुष्प मँगाया था पर तुम कमल के _____ ले के आए।
'फूल' के पर्याय से उपरोक्त वाक्य में रिक्त स्थान की पूर्ति करें।

- Ans
- 1. वारिद
 - 2. सुमन
 - 3. कुमुद
 - 4. पुन्डरिक

Question ID : 26433084985
Status : Not Answered
Chosen Option : --

Q.8 'पांच टन कोयले।' इस वाक्य में रेखांकित शब्द के स्थान पर उचित शब्द क्या होगा?

- Ans
- 1. कोयल
 - 2. कोयलों
 - 3. कोयला सा
 - 4. कोयला

Question ID : 26433062784
Status : Not Answered
Chosen Option : --

Q.9 क्रिया-विशेषण के प्रकार और उनके उदाहरण का निम्न में से कौन सा युग्म सही नहीं है?

- Ans
- 1. परिमाणवाचक क्रिया विशेषण - सर्वत्र
 - 2. समयवाचक क्रिया विशेषण - पीछे
 - 3. निश्चयबोधक क्रिया विशेषण - बेशक
 - 4. स्थितिबोधक क्रिया विशेषण - कहीं न कहीं

Question ID : 26433079230
Status : Not Answered
Chosen Option : --

Q.10 'शिवजी का वह मंदिर जंगल में बहुत दुर्गम स्थान पर है।' वाक्य में प्रयुक्त 'दुर्गम' शब्द का अर्थ है-

- Ans
- 1. जहाँ पहुँचना संभव हो
 - 2. जहाँ पहुँचना कठिन हो
 - 3. जहाँ जाना अच्छा लगता हो
 - 4. जहाँ का रास्ता अच्छा हो

Question ID : 26433069733
Status : Not Answered
Chosen Option : --

Q.11 शालीन व्यक्ति का समाज में हमेशा सम्मान होता है और _____ का अपमान।
'शालीन' के विलोम शब्द से उपरोक्त वाक्य में रिक्त स्थान की पूर्ति कीजिए।

- Ans
- 1. धृष्ट
 - 2. सुकुमार
 - 3. सौम्य
 - 4. वृद्ध

Question ID : 26433080871
Status : Not Answered
Chosen Option : --

Q.12 निम्न में से किस वाक्य में 'सुकुमार' के सही पर्यायवाची शब्द का प्रयोग हुआ है?

- Ans
- 1. रमेश बहुत भोला है।
 - 2. यौवन चिरकाल नहीं रहता।
 - 3. वह छोटा बालक है।
 - 4. पुष्प अत्यंत कोमल होते हैं।

Question ID : 26433085146
Status : Not Answered
Chosen Option : --

Q.13 'सोहन की व्यवहार अच्छा नहीं है।' इस वाक्य में अशुद्धि पहचानिए।

- Ans
- 1. की
 - 2. अच्छा
 - 3. है
 - 4. नहीं

Question ID : 26433091306
Status : Not Answered
Chosen Option : --

Q.14 निम्न वाक्यांश के लिए सार्थक शब्द/सही विकल्प चुनें।
जिसकी कोई सीमा न हो

- Ans
- 1. सीमांत
 - 2. सीमित
 - 3. असीम
 - 4. ससीम

Question ID : 26433066930
Status : Not Answered
Chosen Option : --

Q.15 निम्नलिखित वाक्यों में से शुद्ध वाक्य का चयन कीजिए।

- Ans
- 1. निराशा की किरण छाई हुई है।
 - 2. निराशा के बादल छाये हुए हैं।
 - 3. निराशा का प्रकाश छाया हुआ है।
 - 4. निराशा का उजाला छाया हुआ है।

Question ID : 26433062825

Status : Not Answered

Chosen Option : --

Comprehension:

निम्नलिखित गद्यांश में कुछ शब्दों को हटा दिया गया है। दिए गए विकल्पों की सहायता से रिक्त स्थानों की पूर्ति कीजिए। प्रत्येक संख्या के लिए सबसे उपयुक्त विकल्प का चयन कीजिए।
पर्यटन या देशाटन एक ही अर्थवाची 1. _____ हैं। इसका शाब्दिक अर्थ है- देश-विदेश में 2. _____ करना। एक स्थान पर रहते-रहते मनुष्य ऊब जाता है। वह कहीं 3. _____ जाना चाहता है। मनुष्य में जिज्ञासा वृत्ति होती है, जो उसे अपने देश के विषय में ही नहीं, 4. _____ के बारे में भी जानने की प्रेरणा देती है। वह नई वस्तुओं को जानना चाहता है, उनके सौंदर्य को 5. _____ चाहता है।

SubQuestion No : 16

Q.16 रिक्त स्थान 1 की पूर्ति के लिए सबसे उपयुक्त विकल्प का चयन कीजिए।

- Ans
- 1. वस्तु
 - 2. शब्द
 - 3. विकास
 - 4. ज्ञान

Question ID : 264330111059

Status : Not Answered

Chosen Option : --

Comprehension:

निम्नलिखित गद्यांश में कुछ शब्दों को हटा दिया गया है। दिए गए विकल्पों की सहायता से रिक्त स्थानों की पूर्ति कीजिए। प्रत्येक संख्या के लिए सबसे उपयुक्त विकल्प का चयन कीजिए।
पर्यटन या देशाटन एक ही अर्थवाची 1. _____ हैं। इसका शाब्दिक अर्थ है- देश-विदेश में 2. _____ करना। एक स्थान पर रहते-रहते मनुष्य ऊब जाता है। वह कहीं 3. _____ जाना चाहता है। मनुष्य में जिज्ञासा वृत्ति होती है, जो उसे अपने देश के विषय में ही नहीं, 4. _____ के बारे में भी जानने की प्रेरणा देती है। वह नई वस्तुओं को जानना चाहता है, उनके सौंदर्य को 5. _____ चाहता है।

SubQuestion No : 17

Q.17 रिक्त स्थान 2 की पूर्ति के लिए सबसे उपयुक्त विकल्प का चयन कीजिए।

- Ans
- 1. आश्चर्य
 - 2. मैत्री
 - 3. निकल
 - 4. भ्रमण

Question ID : 264330111060

Status : Not Answered

Chosen Option : --

Comprehension:

निम्नलिखित गद्यांश में कुछ शब्दों को हटा दिया गया है। दिए गए विकल्पों की सहायता से रिक्त स्थानों की पूर्ति कीजिए। प्रत्येक संख्या के लिए सबसे उपयुक्त विकल्प का चयन कीजिए।
पर्यटन या देशाटन एक ही अर्थवाची 1. _____ हैं। इसका शाब्दिक अर्थ है- देश-विदेश में 2. _____ करना। एक स्थान पर रहते-रहते मनुष्य ऊब जाता है। वह कहीं 3. _____ जाना चाहता है। मनुष्य में जिज्ञासा वृत्ति होती है, जो उसे अपने देश के विषय में ही नहीं, 4. _____ के बारे में भी जानने की प्रेरणा देती है। वह नई वस्तुओं को जानना चाहता है, उनके सौंदर्य को 5. _____ चाहता है।

SubQuestion No : 18

Q.18 रिक्त स्थान 3 की पूर्ति के लिए सबसे उपयुक्त विकल्प का चयन कीजिए।

- Ans
- 1. स्थानों
 - 2. घूमने
 - 3. देखने
 - 4. पढ़ने

Question ID : 264330111061

Status : Not Answered

Chosen Option : --

Comprehension:

निम्नलिखित गद्यांश में कुछ शब्दों को हटा दिया गया है। दिए गए विकल्पों की सहायता से रिक्त स्थानों की पूर्ति कीजिए। प्रत्येक संख्या के लिए सबसे उपयुक्त विकल्प का चयन कीजिए।
पर्यटन या देशाटन एक ही अर्थवाची 1. _____ हैं। इसका शाब्दिक अर्थ है- देश-विदेश में 2. _____ करना। एक स्थान पर रहते-रहते मनुष्य ऊब जाता है। वह कहीं 3. _____ जाना चाहता है। मनुष्य में जिज्ञासा वृत्ति होती है, जो उसे अपने देश के विषय में ही नहीं, 4. _____ के बारे में भी जानने की प्रेरणा देती है। वह नई वस्तुओं को जानना चाहता है, उनके सौंदर्य को 5. _____ चाहता है।

SubQuestion No : 19

Q.19 रिक्त स्थान 4 की पूर्ति के लिए सबसे उपयुक्त विकल्प का चयन कीजिए।

- Ans
- 1. यात्राओं
 - 2. विदेश
 - 3. राष्ट्र
 - 4. दूर

Question ID : 264330111062

Status : Not Answered

Chosen Option : --

Comprehension:

निम्नलिखित गद्यांश में कुछ शब्दों को हटा दिया गया है। दिए गए विकल्पों की सहायता से रिक्त स्थानों की पूर्ति कीजिए। प्रत्येक संख्या के लिए सबसे उपयुक्त विकल्प का चयन कीजिए।
पर्यटन या देशाटन एक ही अर्थवाची 1. _____ हैं। इसका शाब्दिक अर्थ है- देश-विदेश में 2. _____ करना। एक स्थान पर रहते-रहते मनुष्य ऊब जाता है। वह कहीं 3. _____ जाना चाहता है। मनुष्य में जिज्ञासा वृत्ति होती है, जो उसे अपने देश के विषय में ही नहीं, 4. _____ के बारे में भी जानने की प्रेरणा देती है। वह नई वस्तुओं को जानना चाहता है, उनके सौंदर्य को 5. _____ चाहता है।

SubQuestion No : 20

Q.20 रिक्त स्थान 5 की पूर्ति के लिए सबसे उपयुक्त विकल्प का चयन कीजिए।

- Ans 1. निहारना
 2. पखारना
 3. भेजना
 4. लाभ

Question ID : 264330111063

Status : Not Answered

Chosen Option : --

KD Job Updates

Constable GD in CAPFs SSF Rifleman GD in Assam Rifles and Sepoy in NCB Examination 2022

Roll Number	KD Job Updates
Candidate Name	KD Job Updates
Venue Name	iON Digital Zone iDZ Chandpura
Exam Date	09/02/2023
Exam Time	2:30 PM - 3:30 PM
Subject	Constable GD Examination 2022

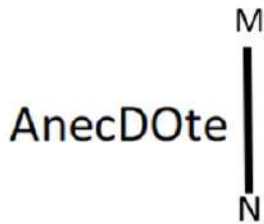
Section : Part-A-General Intelligence and Reasoning

Q.1 एक निश्चित कूट भाषा में, 'BABY' को '20' और 'ADULTS' को '30' के रूप में लिखा जाता है। इसी कूट भाषा में 'WOMAN' को किस प्रकार से लिखा जाएगा?

- Ans
- 1. 20
 - 2. 25
 - 3. 30
 - 4. 35

Question ID : 26433069551
Status : Answered
Chosen Option : 2

Q.2 दी गई आकृति के सही दर्पण प्रतिबिम्ब का चयन करें जब दर्पण को MN पर रखा जाए जैसा कि नीचे दर्शाया गया है।



- Ans
- 1. Anecdote
 - 2. Anecdote
 - 3. Anecdote
 - 4. Anecdote

Question ID : 26433085559
Status : Answered
Chosen Option : 2

Q.3 निम्नलिखित में से कौन-सी संख्या दी गई श्रृंखला में प्रश्न-चिह्न (?) के स्थान पर पर आएगी?
6, 8, 13, 15, 27, 29, 55, 57, ?

- Ans
- 1. 110
 - 2. 102
 - 3. 111
 - 4. 101

Question ID : 26433069117
Status : Answered
Chosen Option : 3

Q.4 उस विकल्प का चयन कीजिए जो तीसरे शब्द से उसी प्रकार संबंधित है जिस प्रकार दूसरा शब्द पहले शब्द से संबंधित है। (शब्दों को अर्थपूर्ण शब्दों के रूप में मानना है और उन्हें शब्द में अक्षरों/व्यंजनों/स्वरों की संख्या के आधार पर एक-दूसरे से संबंधित नहीं करना है।)

रोगाणु : रोग :: युद्ध : _____

- Ans
- 1. बम
 - 2. देश
 - 3. विनाश
 - 4. बंदूक

Question ID : 26433078828
Status : Answered
Chosen Option : 3

Q.5 निम्नलिखित में से कौन-सा अक्षर नीचे दी गई अक्षर श्रृंखला में प्रश्न-चिह्न (?) के स्थान पर आकर श्रृंखला को पूर्ण करेगा?
S, N, G, V, I, ?

- Ans
- 1. Q
 - 2. S
 - 3. T
 - 4. R

Question ID : 26433067283
Status : Answered
Chosen Option : 4

Q.6 नीचे दिए गए समीकरण को गणितीय रूप से सही बनाने के लिए किन दो चिन्हों को परस्पर बदलना चाहिए?

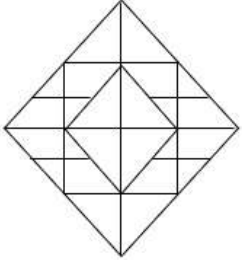
$$40 + 14 \div 35 - 30 \times 15 = 1$$

- Ans
- 1. + और +
 - 2. + और ×
 - 3. + और -
 - 4. - और +

Question ID : 264330117510
Status : Answered
Chosen Option : 2

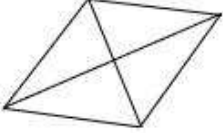
Q.7 वह विकल्प चित्र चुनिए, जो प्रस्तुत चित्र में अंतर्निहित है। (घुमाना अनुमन्य नहीं

है)

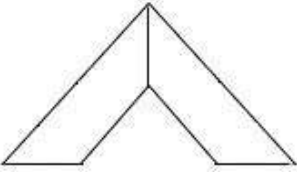


Ans

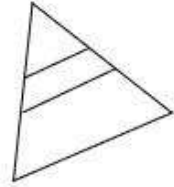
✗ 1.



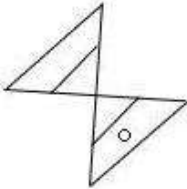
✓ 2.



✗ 3.



✗ 4.



KD Job Updates

Question ID : 26433069354

Status : Answered

Chosen Option : 2

Q.8 उस विकल्प का चयन कीजिए जो तीसरे शब्द से उसी प्रकार संबंधित है जिस प्रकार दूसरा शब्द पहले शब्द से संबंधित है। (शब्दों को अर्थपूर्ण शब्दों के रूप में मानना है और उन्हें शब्द में अक्षरों/व्यंजनों/स्वरों की संख्या के आधार पर एक-दूसरे से संबंधित नहीं करना है।)
संगीतकार : बैड :: सैनिक : ?

Ans ✗ 1. पुलिस

✓ 2. सेना

✗ 3. सीमा

✗ 4. युद्ध

Question ID : 26433067368

Status : Answered

Chosen Option : 2

Q.9 एक ही पासे की दो अलग-अलग स्थितियों को दर्शाया गया है जिस पर 'G' से 'L' तक के वर्णाक्षर बने हैं।

'L' दर्शाने वाले फलक के विपरीत फलक पर स्थित वर्णाक्षर ज्ञात कीजिए।



- Ans 1. J
 2. K
 3. I
 4. H

Question ID : 26433085510

Status : Answered

Chosen Option : 1

Q.10 दिए गए विकल्पों में से उस अक्षर-समूह का चयन कीजिए जो निम्न श्रृंखला में प्रश्न-चिह्न (?) के स्थान पर आ सकता है।
UCZE, BXGL, ISNS, ?, WIBG

- Ans 1. FQNR
 2. FMVT
 3. PBNW
 4. PNUZ

Question ID : 26433074738

Status : Answered

Chosen Option : 4

Q.11 निम्नलिखित में से कौन-सी संख्या दी गई श्रृंखला में प्रश्न-चिह्न (?) के स्थान पर आएगी?
10, 20, 11, 22, 14, 26, 19, 32, ?

- Ans 1. 32
 2. 29
 3. 26
 4. 28

Question ID : 26433069047

Status : Answered

Chosen Option : 3

Q.12 एक निश्चित भाषा में ABROAD को RBAOAD और ACCEPT को CCAEPT लिखा जाता है। इसी भाषा में ACTIVE को कैसे लिखा जाएगा?

- Ans
- 1. ZXGREV
 - 2. TCAIVE
 - 3. TCAEVI
 - 4. EVITCA

Question ID : 26433074588
Status : Answered
Chosen Option : 2

Q.13 पांच व्यक्ति P, Q, R, S और T एक सीधी पंक्ति में उत्तर की ओर मुख करके बैठे हैं। S के दाईं ओर केवल तीन व्यक्ति बैठे हैं। P और Q किसी भी सिरे पर मौजूद सीट पर नहीं बैठे हैं। T, Q के बाईं ओर तीसरे स्थान पर बैठा है। R कहाँ बैठा है?

- Ans
- 1. S के बाईं ओर दूसरे स्थान पर
 - 2. Q के दाईं ओर ठीक बगल में
 - 3. T के बाईं ओर दूसरे स्थान पर
 - 4. Q के बाईं ओर ठीक बगल में

Question ID : 26433074525
Status : Answered
Chosen Option : 2

Q.14 किस विकल्प में निम्नलिखित शब्दों का वह क्रम दिया गया है, जिस क्रम में वे अंग्रेजी शब्दकोश में आते हैं।

1. Stool
2. Store
3. Stair
4. Strong
5. Stream

- Ans
- 1. 3,1,4,2,5
 - 2. 3,1,5,4,2
 - 3. 3,2,1,5,4
 - 4. 3,1,2,5,4

Question ID : 26433069269
Status : Answered
Chosen Option : 4

Q.15 तीन कथनों के बाद तीन निष्कर्ष दिए गए हैं। कथनों को सत्य मानते हुए, भले ही वे सामान्य रूप से ज्ञात तथ्यों से भिन्न प्रतीत होते हों, निर्णय करें कि कौन सा/से निष्कर्ष कथनों का तार्किक रूप से अनुसरण करता/करते है/हैं।

कथन:

सभी काले नीले हैं।

सभी नीले गुलाबी हैं।

कोई भी गुलाबी हरा नहीं है।

निष्कर्ष:

1. सभी हरे नीले हो सकते हैं।

2. कुछ गुलाबी काले हैं।

3. सभी काले हरे हैं।

- Ans
- 1. सभी निष्कर्ष अनुसरण करते हैं।
 - 2. केवल निष्कर्ष 1 अनुसरण करता है।
 - 3. केवल निष्कर्ष 2 अनुसरण करता है।
 - 4. केवल निष्कर्ष 1 और 2 अनुसरण करते हैं।

Question ID : 26433089421

Status : Answered

Chosen Option : 3

Q.16 छः व्यक्ति J, K, L, M, N और O, एक वृत्ताकार मेज के परितः मेज के केंद्र की ओर मुख करके बैठे हैं। M, O और J के ठीक बगल में बैठा है। J, K के दाईं ओर दूसरे स्थान पर बैठा है। L, N के दाईं ओर दूसरे स्थान पर बैठा है। N के दाईं ओर से गणना करने पर, L और N के बीच में कौन बैठा है?

- Ans
- 1. O
 - 2. K
 - 3. J
 - 4. M

Question ID : 26433081518

Status : Answered

Chosen Option : 2

Q.17 A @ B का अर्थ है 'A, B की सास है'।
A & B का अर्थ है 'A, B की माता है'।
A # B का अर्थ है 'A, B का पति है'।
A % B का अर्थ है 'A, B का भाई है'।
यदि G @ V # K & C % M है तो G, M से किस प्रकार संबंधित है?

- Ans
- 1. मौसी
 - 2. नानी
 - 3. माता
 - 4. परदादी/परनानी

Question ID : 26433069619

Status : Answered

Chosen Option : 2

Q.18 उस विकल्प का चयन करें, जो पाँचवीं संख्या से उसी प्रकार संबंधित है, जिस प्रकार दूसरी संख्या, पहली संख्या से संबंधित है और चौथी संख्या, तीसरी संख्या से संबंधित है।
9 : 3 :: 243 : 9 :: 6561 : ?

Ans 1. 81

2. 27

3. 17

4. 12

Question ID : 26433069415

Status : Answered

Chosen Option : 2

Q.19 यदि '+' का अर्थ है '-', '-' का अर्थ है '+', '÷' का अर्थ है '×', और '×' का अर्थ है '+', तो निम्नलिखित में से कौन-सा, अभिव्यक्ति का मान होगा?
 $125 - 25 \div 3 + 14 \times 36$

Ans 1. 37

2. 35

3. 43

4. 48

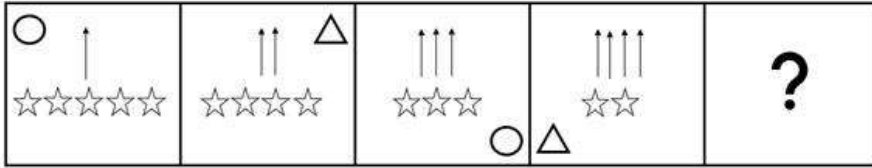
Question ID : 264330114181

Status : Answered

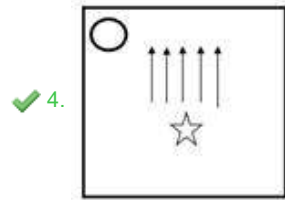
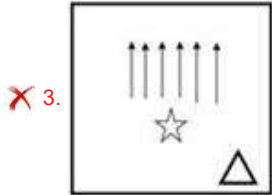
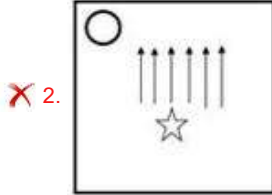
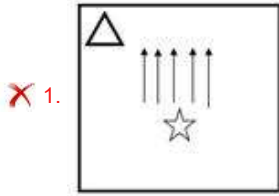
Chosen Option : 1

KD Job Updates

Q.20 उस आकृति का चयन करें, जो निम्न आकृति श्रृंखला में आगे आएगी।



Ans



Question ID : 26433076493

Status : Answered

Chosen Option : 4

Section : Part-B-General Knowledge and General awareness

Q.1 भारत में स्वर्णजयंती ग्राम स्वरोजगार योजना किस वर्ष में शुरू की गई थी?

Ans ✓ 1. 1999

✗ 2. 2008

✗ 3. 2005

✗ 4. 2000

Question ID : 264330116075

Status : Answered

Chosen Option : 3

Q.2 भारत में पहली पंचवर्षीय योजना के दौरान स्थापित उच्च शिक्षा का सांविधिक निकाय कौन सा था?

- Ans
- 1. भारतीय आयुर्विज्ञान परिषद
 - 2. विश्वविद्यालय अनुदान आयोग
 - 3. अखिल भारतीय तकनीकी शिक्षा परिषद
 - 4. राष्ट्रीय शिक्षक शिक्षण परिषद

Question ID : 264330115366
Status : Answered
Chosen Option : 2

Q.3 ध्यानचंद निम्नलिखित में से किस खेल के एक महान खिलाड़ी थे?

- Ans
- 1. फुटबॉल
 - 2. टेनिस
 - 3. क्रिकेट
 - 4. हॉकी

Question ID : 264330116289
Status : Answered
Chosen Option : 4

Q.4 ह्यूमस, एक गहरे रंग का अक्रिस्टलीय पदार्थ है। यह किस प्रक्रिया के परिणामस्वरूप बनता है?

- Ans
- 1. निक्षालन
 - 2. विखंडन
 - 3. खनिजन
 - 4. ह्यूमसीभवन

Question ID : 264330115251
Status : Answered
Chosen Option : 4

Q.5 दीनदयाल बंदरगाह, गुजरात के कंडला में स्थित एक _____ बंदरगाह है।

- Ans
- 1. छोटा
 - 2. नया
 - 3. ज्वारीय
 - 4. अस्थायी

Question ID : 264330115544
Status : Answered
Chosen Option : 3

Q.6 निम्नलिखित राजनीतिक नेताओं में से कौन अगस्त 2022 में बिहार, भारत के मुख्यमंत्री बने?

- Ans
- 1. रेणु देवी
 - 2. तेजस्वी यादव
 - 3. नीतीश कुमार
 - 4. तारकिशोर प्रसाद

Question ID : 264330114900
Status : Answered
Chosen Option : 3

Q.7 शास्त्रीय नृत्य छऊ का संबंध निम्न में से किस राज्य से नहीं है?

- Ans
- 1. झारखंड
 - 2. तमिलनाडु
 - 3. ओडिशा
 - 4. पश्चिम बंगाल

Question ID : 26433086709
Status : Answered
Chosen Option : 2

Q.8 _____ में गांधीजी ने शहर में एक सूती मिल के मालिकों और श्रमिकों के बीच विवाद को समाधान करने के लिए अहमदाबाद में एक सत्याग्रह किया था।

- Ans
- 1. 1915
 - 2. 1916
 - 3. 1917
 - 4. 1918

Question ID : 264330106574
Status : Answered
Chosen Option : 4

Q.9 किशोर न्याय (बच्चों की देखभाल और संरक्षण) अधिनियम, 2015 के अंतर्गत "किशोर" शब्द एक ऐसे व्यक्ति को संदर्भित करता है, जिसकी आयु _____ है।

- Ans
- 1. 16 वर्ष से कम
 - 2. 18 वर्ष से कम
 - 3. 12 वर्ष से कम
 - 4. 15 वर्ष से कम

Question ID : 264330116221
Status : Answered
Chosen Option : 2

Q.10 राजस्थान अंतर्राष्ट्रीय लोक महोत्सव का _____ संस्करण 6 से 10 अक्टूबर 2022 तक आयोजित किया गया था।

- Ans
- 1. 11वां
 - 2. 12वां
 - 3. 13वां
 - 4. 10वां

Question ID : 264330115086
Status : Answered
Chosen Option : 3

Q.11 जापान में अगले भारतीय राजदूत के रूप में संजय कुमार वर्मा का स्थान किसने लिया?

- Ans
- 1. नवीन श्रीवास्तव
 - 2. सिबी जॉर्ज
 - 3. गोपाल बागले
 - 4. सुनील अरोड़ा

Question ID : 264330115000
Status : Answered
Chosen Option : 1

Q.12 अंत्योदय अन्न योजना (AAY) किस वर्ष शुरू की गई थी?

- Ans
- 1. 1999
 - 2. 2000
 - 3. 1998
 - 4. 1997

Question ID : 264330116155
Status : Answered
Chosen Option : 1

Q.13 निम्नलिखित में से कौन सा भौतिक मात्रा और माप की इकाई की गलत जोड़ी है?

- Ans
- 1. ऊर्जा - जूल
 - 2. आवृत्ति - हर्ट्ज
 - 3. दाब - न्यूटन
 - 4. शक्ति - वाट

Question ID : 264330115148
Status : Answered
Chosen Option : 3

Q.14 श्रीमंत शंकरदेव ने किस नृत्य शैली में अपनी पहचान बनाई?

- Ans
- 1. रचनात्मक नृत्य
 - 2. सत्रीया
 - 3. मोहिनीअट्टम
 - 4. कुचिपुड़ी

Question ID : 264330115875
Status : Answered
Chosen Option : 2

Q.15 भारत के राष्ट्रीय खेल 2022 के 36वें संस्करण का आधिकारिक आदर्श वाक्य (मोटो) था।

- Ans
- 1. खेलों के माध्यम से आजादी का उत्सव मनाना
 - 2. खेलों के माध्यम से एकता का उत्सव मनाना
 - 3. खेलों के माध्यम से धर्मनिरपेक्षता का उत्सव मनाना
 - 4. खेलों के माध्यम से स्वास्थ्य का उत्सव मनाना

Question ID : 264330115949
Status : Answered
Chosen Option : 1

Q.16 भारतीय संविधान के किस संवैधानिक संशोधन अधिनियम के लिए 'मिनी संविधान' शब्द का प्रयोग किया गया है?

- Ans
- 1. 38^{वें}
 - 2. 40^{वें}
 - 3. 42^{वें}
 - 4. 44^{वें}

Question ID : 26433090661
Status : Answered
Chosen Option : 3

Q.17 राज्य के राज्यपाल की नियुक्ति _____ द्वारा की जाती है।

- Ans
- 1. प्रधानमंत्री (केंद्र सरकार की सलाह पर)
 - 2. राष्ट्रपति
 - 3. प्रधानमंत्री
 - 4. मुख्यमंत्री (केंद्र सरकार की सलाह पर)

Question ID : 26433086671
Status : Answered
Chosen Option : 2

Q.18 भारत के उत्तर-पश्चिम भाग में _____ के कारण सर्दियों में वर्षा होती है।

- Ans
- 1. पश्चिमी विक्षोभ
 - 2. उत्तर-पश्चिम मानसून
 - 3. दक्षिण-पश्चिम मानसून
 - 4. निवर्तन की ऋतु

Question ID : 26433089657
Status : Answered
Chosen Option : 3

Q.19 यदि ऋण जोखिम संपार्श्विक द्वारा समर्थित है, तो इसे _____ कहा जाता है।

- Ans
- 1. असुरक्षित क्रेडिट
 - 2. खराब क्रेडिट
 - 3. सुरक्षित क्रेडिट
 - 4. उच्च क्रेडिट

Question ID : 264330115297
Status : Answered
Chosen Option : 1

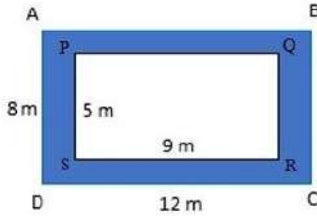
Q.20 जैन धर्म के नियमों का पालन करना निम्नलिखित में से किसके लिए अधिक कठिन था?

- Ans
- 1. कारीगरों
 - 2. व्यापारियों
 - 3. किसानों
 - 4. महाजनों

Question ID : 26433085211
Status : Answered
Chosen Option : 4

Section : Part-C-Elementary Mathematics

Q.1 दिए गए आयत ABCD के छायांकित भाग का क्षेत्रफल ज्ञात कीजिए। (PQRS भी एक आयत है)



- Ans
- 1. 51 m^2
 - 2. 52 m^2
 - 3. 53 m^2
 - 4. 50 m^2

Question ID : 26433075525
Status : Answered
Chosen Option : 1

Q.2 एक दुकानदार अपनी वस्तुओं को Rs.40 प्रति किग्रा की दर से बेचने का दावा करता है, जिसकी कीमत उसके लिए Rs.50 प्रति किग्रा है। लेकिन बेचते समय वह गलत वजन का उपयोग करता है और 1 किलो के बजाय केवल 640 ग्राम देता है। उसका लाभ प्रतिशत क्या है?

- Ans
- 1. 10%
 - 2. 15%
 - 3. 25%
 - 4. 20%

Question ID : 26433076093
Status : Answered
Chosen Option : 3

Q.3 $45a + 45b = 6750$ है, तो a और b का औसत ज्ञात कीजिए।

Ans 1. 75

2. 150

3. 85

4. 95

Question ID : 26433076171

Status : Answered

Chosen Option : 1

Q.4 5 km की एक दौड़ में, X, Y और Z, प्रत्येक समान चाल से दौड़ते हुए, क्रमशः स्वर्ण, रजत और कांस्य पदक प्राप्त करते हैं। यदि X, Y को 0.5 km से हराता है और Y, Z को 0.5 km से हराता है, तो X, Z को कितने मीटर से हराता है?

Ans 1. 975 m

2. 960 m

3. 950 m

4. 1,000 m

Question ID : 26433076235

Status : Answered

Chosen Option : 3

Q.5 सोमराज ने Rs.11,550 की राशि, 10% की वार्षिक ब्याज दर पर उधार ली, जिसमें ब्याज वार्षिक रूप से चक्रवृद्धि किया जाता है। उसने पूरी राशि दो बराबर वार्षिक किश्तों में चुका दी। प्रत्येक किश्त का मूल्य क्या होगा?

Ans 1. Rs.4455

2. Rs.5775

3. Rs.6655

4. Rs.7755

Question ID : 26433075737

Status : Answered

Chosen Option : 3

Q.6 यदि संख्या $715*42324$, 3 से पूर्णतः विभाज्य है, तो * के स्थान पर सबसे बड़ी पूर्ण संख्या ज्ञात करें।

Ans 1. 3

2. 2

3. 5

4. 8

Question ID : 26433079902

Status : Answered

Chosen Option : 2

Q.7 अमोल एक कार्य को 96 दिनों में और ईशा समान कार्य को 60 दिनों में कर सकती है। उन्होंने 30 दिनों तक साथ काम किया और फिर ईशा ने काम छोड़ दिया। शेष कार्य को पूरा करने के लिए अमोल द्वारा लिए गए दिन ज्ञात करें।

- Ans
- 1. 22 दिन
 - 2. 24 दिन
 - 3. 12 दिन
 - 4. 18 दिन

Question ID : 264330116905
Status : Answered
Chosen Option : 4

Q.8 यदि दो संख्याओं का योग 60 है और इन संख्याओं का महत्तम समापवर्तक और लघुत्तम समापवर्त्य क्रमशः 5 और 175 है, तो संख्याओं के व्युत्क्रमों का योग _____ है।

- Ans
- 1. $\frac{14}{120}$
 - 2. $\frac{11}{120}$
 - 3. $\frac{14}{175}$
 - 4. $\frac{12}{175}$

Question ID : 26433082353
Status : Answered
Chosen Option : 4

Q.9 चक्रवृद्धि ब्याज पर एक राशि 2 वर्षों में Rs.2,809 और 3 वर्षों में Rs.2,977.54 हो जाती है। प्रति वर्ष की दर प्रतिशत _____ है।

- Ans
- 1. 10%
 - 2. 8%
 - 3. 12%
 - 4. 6%

Question ID : 26433075157
Status : Answered
Chosen Option : 4

Q.10 20%, 10% और 2% की तीन क्रमागत छूट के बराबर एक छूट क्या होगी?

- Ans
- 1. 32%
 - 2. 29.44%
 - 3. 29.56%
 - 4. 30.44%

Question ID : 26433062635
Status : Answered
Chosen Option : 2

Q.11 देव और रोहित किसी कार्य को क्रमशः 12 और 36 दिनों में कर सकते हैं। देव से प्रारंभ करते हुए वे एकांतर दिनों पर कार्य करते हैं। कार्य कितने दिनों में पूरा हो जाएगा?

- Ans 1. 18 दिन
 2. 20 दिन
 3. 25 दिन
 4. 12 दिन

Question ID : 26433074942
Status : Answered
Chosen Option : 1

Q.12 125 m, 118 m, 88 m का चतुर्थानुपाती निर्धारित करें। (दो दशमलव स्थान तक मान लें)

- Ans 1. 73.07 m
 2. 79.07 m
 3. 89.07 m
 4. 83.07 m

Question ID : 26433081031
Status : Answered
Chosen Option : 4

Q.13 4 वर्ष पूर्व, 4 सदस्यों के एक परिवार की औसत आयु 16 वर्ष थी। आज एक बच्चे का जन्म हुआ है। परिवार के 5 सदस्यों की वर्तमान औसत आयु क्या होगी?

- Ans 1. 22 वर्ष
 2. 15 वर्ष
 3. 18 वर्ष
 4. 16 वर्ष

Question ID : 26433079762
Status : Answered
Chosen Option : 4

Q.14 अशोक ने एक लैपटॉप ₹60,000 में खरीदा और उसे ₹72,000 में बेचा। लैपटॉप की बिक्री पर प्रतिशत लाभ कितना है?

- Ans 1. 30%
 2. 20%
 3. 12%
 4. 25%

Question ID : 26433082502
Status : Answered
Chosen Option : 2

Q.15 एक चुनाव में, दो उम्मीदवार एक दूसरे के खिलाफ थे। एक उम्मीदवार को 44% मत प्राप्त हुए और वह 7488 मतों से चुनाव हार गया। विजेता को कितने मत प्राप्त हुए?

- Ans
- 1. 35944
 - 2. 39544
 - 3. 34944
 - 4. 39444

Question ID : 26433080377
Status : Answered
Chosen Option : 3

Q.16 500 मीटर की एक दौड़ में, दौड़ को समान समय में पूरा करने के लिए Q, P को 50 मीटर की प्रारंभिक शुरुआत (हेड स्टार्ट) देता है और R, Q को 100 मीटर की प्रारंभिक शुरुआत (हेड स्टार्ट) देता है। उसी दौड़ को एक ही समय पर पूरा करने के लिए R, P को जो प्रारंभिक शुरुआत (हेड स्टार्ट) दे सकता है, वह _____ है।

- Ans
- 1. 260 मीटर
 - 2. 140 मीटर
 - 3. 160 मीटर
 - 4. 240 मीटर

Question ID : 26433076278
Status : Answered
Chosen Option : 2

Q.17 तीन संख्याओं का योग 135 है। यदि पहली संख्या और दूसरी संख्या का अनुपात 4 : 5 है, तथा दूसरी और तीसरी संख्या का अनुपात 5 : 6 है, तो पहली संख्या _____ है।

- Ans
- 1. 54
 - 2. 36
 - 3. 64
 - 4. 45

Question ID : 26433080116
Status : Answered
Chosen Option : 2

Q.18 एक नई कार की लागत 1280000 रूपए हैं। पहले वर्ष में इसकी कीमत 25 प्रतिशत से कम हो जाती है। पहले वर्ष के अंत में इसका क्या मूल्य है?

- Ans
- 1. 990000 रूपए
 - 2. 960000 रूपए
 - 3. 1050000 रूपए
 - 4. 850000 रूपए

Question ID : 264330116825
Status : Answered
Chosen Option : 2

Q.19 एक कंपनी किसी उत्पाद के अंकित मूल्य पर 30% की छूट प्रदान करती है। खुदरा विक्रेता घटी हुई कीमत पर एक और 15% छूट प्रदान करता है। दोनों छूट _____ वाली एकल छूट के बराबर होगी।

- Ans
- 1. 42.0 प्रतिशत
 - 2. 40.5 प्रतिशत
 - 3. 35.5 प्रतिशत
 - 4. 45.5 प्रतिशत

Question ID : 26433082715
Status : Answered
Chosen Option : 2

Q.20 6.3 cm की आंतरिक त्रिज्या वाली एक खोखली गोलाकार धातु की गेंद को दो बराबर भागों में काटा गया था। एक भाग में पानी भरा हुआ था जबकि दूसरे भाग को खाली रखा गया था। पहले वाले भाग में रखे पानी का आयतन (cm^3 में, एक दशमलव स्थान तक पूर्णांकित) कितना है? (मान लीजिए $\pi = \frac{22}{7}$)

- Ans
- 1. 523.9
 - 2. 520.9
 - 3. 550.9
 - 4. 433.8

Question ID : 26433075252
Status : Answered
Chosen Option : 1

Section : Part-D-English

Q.1 Select the most appropriate synonym of the word 'stimulate' from the following sentence.

His jovial nature energises and charms the whole auditorium.

- Ans
- 1. Energises
 - 2. Charms
 - 3. Jovial
 - 4. Auditorium

Question ID : 26433072261
Status : Not Answered
Chosen Option : --

Q.2 Select the most appropriate option that can substitute the underlined segment in the given sentence.

The division of labour is the second strategy to possess money.

- Ans
- 1. to make strategy
 - 2. to make physique
 - 3. to build wealth
 - 4. to give support

Question ID : 26433088510
Status : Not Answered
Chosen Option : --

Q.3 Select the most appropriate synonym of the given word.

Impress

- Ans 1. Suffice
 2. Endure
 3. Anxious
 4. Influence

Question ID : 26433073395
Status : Not Answered
Chosen Option : --

Q.4 Select the most appropriate ANTONYM of the given word.

Reluctant

- Ans 1. Resistant
 2. Willing
 3. Cautious
 4. Miserable

Question ID : 26433071968
Status : Not Answered
Chosen Option : --

Q.5 Select the most appropriate ANTONYM of the given word.

Hesitate

- Ans 1. Imitate
 2. Vacillate
 3. Resolve
 4. Reform

Question ID : 26433088494
Status : Not Answered
Chosen Option : --

Q.6 Select the INCORRECTLY spelt word.

- Ans 1. Reckless
 2. Palpable
 3. Endavour
 4. Rubbish

Question ID : 26433073651
Status : Not Answered
Chosen Option : --

Q.7 Select the most appropriate meaning of the given idiom.

Armed to the teeth

- Ans
- 1. Carrying a lot of weapons
 - 2. Very frustrated
 - 3. Decide to continue in spite of difficulties
 - 4. Very difficult to do

Question ID : 26433072682
Status : Not Answered
Chosen Option : --

Q.8 Select the word that is similar in meaning to the underlined word.

It was difficult to find a police officer who was not partial.

- Ans
- 1. Weak
 - 2. Coward
 - 3. Corrupt
 - 4. Biased

Question ID : 26433087946
Status : Not Answered
Chosen Option : --

Q.9 The sentence given below has one misspelt word. Spot the INCORRECTLY spelt word and select its correct spelling.

She needs to visit a physiotherapist.

- Ans
- 1. Physiotherapist
 - 2. Physeotherapist
 - 3. Fiziotherapist
 - 4. Fisiiotherapist

Question ID : 26433073554
Status : Not Answered
Chosen Option : --

Q.10 Select the most appropriate option to fill in the blank.

There was a story about a kind tree and a little boy. He used to sit _____ the shade of the tree.

- Ans
- 1. near
 - 2. beside
 - 3. with
 - 4. in

Question ID : 26433072729
Status : Not Answered
Chosen Option : --

Q.11 Select the most appropriate ANTONYM to substitute the underlined word in the given sentence.

The evasive nature of the politician is what is making her a poor choice for the post.

- Ans 1. truthful
 2. freaky
 3. elusive
 4. greasy

Question ID : 26433074012
Status : Not Answered
Chosen Option : --

Q.12 Select the most appropriate option that can substitute the underlined segment in the given sentence.

The invitation card very clearly mentions that the entry in the show will be closed at 6 p.m.

- Ans 1. entry on the show will be
 2. entry about the show will be
 3. entry to the show will be
 4. entry over the show will be

Question ID : 264330100988
Status : Not Answered
Chosen Option : --

Q.13 Select the most appropriate ANTONYM of the given word.
Capture

- Ans 1. Liberate
 2. Abolish
 3. Seize
 4. Establish

Question ID : 26433086343
Status : Not Answered
Chosen Option : --

Q.14 The following sentence has been divided into parts. One of them may contain an error. Select the part that contains the error from the given options. If you don't find any error, mark 'No error' as your answer.

The forest ranger always / treats all the wild animals / in his area very kindly.

- Ans 1. in his area very kindly
 2. treats all the wild animals
 3. No error
 4. The forest ranger always

Question ID : 26433073762
Status : Not Answered
Chosen Option : --

Q.15 Select the most appropriate meaning of the given idiom.

In the long run

- Ans** 1. Purposeful refusing
 2. In the end
 3. Simultaneously
 4. Careful running

Question ID : 26433073711

Status : **Not Answered**

Chosen Option : --

Comprehension:

In the following passage, some words have been deleted. Read the passage carefully and select the most appropriate option to fill in each blank.

Tourists Travelling (1) _____ Jammu and Kashmir have another attraction – a floating post office on the Dal Lake in Srinagar, the first in the country. 'Floating Post Office, Dal Lake – claimed to be the only one such post office in the world – is (2) _____ on an intricately carved maroon houseboat, fastened on the western edge of the Dal Lake.

This post office lets you (3) _____ all the regular postal services available in the country while being afloat. The seal used on everything posted from the Floating Post Office is unique – along with the date and address. It bears the design of a boatman rowing a Shikara on the Dal Lake. The special feature of this post office is that letters posted from here carry a special design which has the picturesque scenery of Dal Lake and Srinagar city. These pictures reach wherever these letters are posted to and (4) _____ promote Kashmir as a tourist destination across the world.

This is actually a heritage post office that has existed since British times. It was called the Nehru Park Post Office before 2011. But after that the chief postmaster John Samuel renamed it as 'Floating Post Office'.

The post office's houseboat has two small rooms – one (5) _____ as the office and the other a small museum that traces the philatelic history of the state postal department. It has a shop that sells postage stamps and other products.

SubQuestion No : 16

Q.16 Select the most appropriate option to fill in blank number 1.

- Ans** 1. by
 2. from
 3. beside
 4. to

Question ID : 26433060960

Status : **Not Answered**

Chosen Option : --

Comprehension:

In the following passage, some words have been deleted. Read the passage carefully and select the most appropriate option to fill in each blank.

Tourists Travelling (1) _____ Jammu and Kashmir have another attraction – a floating post office on the Dal Lake in Srinagar, the first in the country. 'Floating Post Office, Dal Lake – claimed to be the only one such post office in the world – is (2) _____ on an intricately carved maroon houseboat, fastened on the western edge of the Dal Lake.

This post office lets you (3) _____ all the regular postal services available in the country while being afloat. The seal used on everything posted from the Floating Post Office is unique – along with the date and address. It bears the design of a boatman rowing a Shikara on the Dal Lake. The special feature of this post office is that letters posted from here carry a special design which has the picturesque scenery of Dal Lake and Srinagar city. These pictures reach wherever these letters are posted to and (4) _____ promote Kashmir as a tourist destination across the world.

This is actually a heritage post office that has existed since British times. It was called the Nehru Park Post Office before 2011. But after that the chief postmaster John Samuel renamed it as 'Floating Post Office'.

The post office's houseboat has two small rooms – one (5) _____ as the office and the other a small museum that traces the philatelic history of the state postal department. It has a shop that sells postage stamps and other products.

SubQuestion No : 17

Q.17 Select the most appropriate option to fill in blank number 2.

- Ans 1. was built
 2. built
 3. build
 4. building

Question ID : 26433060961

Status : Not Answered

Chosen Option : --

Comprehension:

In the following passage, some words have been deleted. Read the passage carefully and select the most appropriate option to fill in each blank.

Tourists Travelling (1) _____ Jammu and Kashmir have another attraction – a floating post office on the Dal Lake in Srinagar, the first in the country. 'Floating Post Office, Dal Lake – claimed to be the only one such post office in the world – is (2) _____ on an intricately carved maroon houseboat, fastened on the western edge of the Dal Lake.

This post office lets you (3) _____ all the regular postal services available in the country while being afloat. The seal used on everything posted from the Floating Post Office is unique – along with the date and address. It bears the design of a boatman rowing a Shikara on the Dal Lake. The special feature of this post office is that letters posted from here carry a special design which has the picturesque scenery of Dal Lake and Srinagar city. These pictures reach wherever these letters are posted to and (4) _____ promote Kashmir as a tourist destination across the world.

This is actually a heritage post office that has existed since British times. It was called the Nehru Park Post Office before 2011. But after that the chief postmaster John Samuel renamed it as 'Floating Post Office'.

The post office's houseboat has two small rooms – one (5) _____ as the office and the other a small museum that traces the philatelic history of the state postal department. It has a shop that sells postage stamps and other products.

SubQuestion No : 18

Q.18 Select the most appropriate option to fill in blank number 3.

- Ans 1. account
 2. avail
 3. mileage
 4. seen

Question ID : 26433060962

Status : Not Answered

Chosen Option : --

Comprehension:

In the following passage, some words have been deleted. Read the passage carefully and select the most appropriate option to fill in each blank.

Tourists Travelling (1) _____ Jammu and Kashmir have another attraction – a floating post office on the Dal Lake in Srinagar, the first in the country. 'Floating Post Office, Dal Lake – claimed to be the only one such post office in the world – is (2) _____ on an intricately carved maroon houseboat, fastened on the western edge of the Dal Lake.

This post office lets you (3) _____ all the regular postal services available in the country while being afloat. The seal used on everything posted from the Floating Post Office is unique – along with the date and address. It bears the design of a boatman rowing a Shikara on the Dal Lake. The special feature of this post office is that letters posted from here carry a special design which has the picturesque scenery of Dal Lake and Srinagar city. These pictures reach wherever these letters are posted to and (4) _____ promote Kashmir as a tourist destination across the world.

This is actually a heritage post office that has existed since British times. It was called the Nehru Park Post Office before 2011. But after that the chief postmaster John Samuel renamed it as 'Floating Post Office'.

The post office's houseboat has two small rooms – one (5) _____ as the office and the other a small museum that traces the philatelic history of the state postal department. It has a shop that sells postage stamps and other products.

SubQuestion No : 19

Q.19 Select the most appropriate option to fill in blank number 4.

- Ans 1. than
 2. in hindsight
 3. hence
 4. however

Question ID : 26433060963

Status : Not Answered

Chosen Option : --

KD Job Updates

Comprehension:

In the following passage, some words have been deleted. Read the passage carefully and select the most appropriate option to fill in each blank.

Tourists Travelling (1) _____ Jammu and Kashmir have another attraction – a floating post office on the Dal Lake in Srinagar, the first in the country. 'Floating Post Office, Dal Lake – claimed to be the only one such post office in the world – is (2) _____ on an intricately carved maroon houseboat, fastened on the western edge of the Dal Lake.

This post office lets you (3) _____ all the regular postal services available in the country while being afloat. The seal used on everything posted from the Floating Post Office is unique – along with the date and address. It bears the design of a boatman rowing a Shikara on the Dal Lake. The special feature of this post office is that letters posted from here carry a special design which has the picturesque scenery of Dal Lake and Srinagar city. These pictures reach wherever these letters are posted to and (4) _____ promote Kashmir as a tourist destination across the world.

This is actually a heritage post office that has existed since British times. It was called the Nehru Park Post Office before 2011. But after that the chief postmaster John Samuel renamed it as 'Floating Post Office'.

The post office's houseboat has two small rooms – one (5) _____ as the office and the other a small museum that traces the philatelic history of the state postal department. It has a shop that sells postage stamps and other products.

SubQuestion No : 20

Q.20 Select the most appropriate option to fill in blank number 5.

- Ans 1. guides
 2. serves
 3. directs
 4. handles

Question ID : 26433060964

Status : Not Answered

Chosen Option : --

Section : Part-D-Hindi

Q.1 निम्नलिखित वाक्य में रेखांकित शब्द के विलोम शब्द का प्रयोग करके रिक्त स्थान की पूर्ति कीजिए।
सगुण और _____ दोनों ही परमात्मा के स्वरूप हैं।

- Ans 1. सांख्य
 2. निर्गुण
 3. निर्मल
 4. विपुल

Question ID : 26433091345

Status : Answered

Chosen Option : 2

Q.2 'काला अक्षर भैस बराबर' मुहावरे का सही अर्थ है-

- Ans 1. निरक्षर होना
 2. बहुत होशियार होना
 3. अच्छी भैस होना
 4. पढ़ने में अच्छा होना

Question ID : 26433062608

Status : Answered

Chosen Option : 1

Q.3 "पत्र में जो कहा है, सब झूठ है।"
उपरोक्त वाक्य में क्रिया सम्बन्धी त्रुटि पहचानकर निम्नलिखित में से शुद्ध वाक्य का चयन कीजिए।

- Ans
- 1. पत्र में जो स्पष्ट है, सब झूठ है।
 - 2. पत्र में जो बताया है, सब झूठ है।
 - 3. पत्र में जो लिखा है, सब झूठ है।
 - 4. पत्र में जो भेजा है, सब झूठ है।

Question ID : 26433066976
Status : Answered
Chosen Option : 3

Q.4 पुलिस ने मयंक से जब चोरी के बारे में पूछा तो मयंक _____ झूठ बोल गया।
रिक्त स्थान की पूर्ति उचित मुहावरा शब्द द्वारा कीजिए।

- Ans
- 1. एकदम
 - 2. सफेद
 - 3. सभी
 - 4. काला

Question ID : 26433062615
Status : Answered
Chosen Option : 2

Q.5 निम्नलिखित वाक्यांश के लिए एक सार्थक शब्द चुनिए।
जिसे न जीता जा सके

- Ans
- 1. अमर
 - 2. अपराजय
 - 3. अजेय
 - 4. अजर

Question ID : 26433069986
Status : Answered
Chosen Option : 3

Q.6 'जैसा उचित हो वैसा' इस वाक्यांश के लिए सार्थक शब्द है -

- Ans
- 1. अभीप्सित
 - 2. यथोचित
 - 3. यथालाभ
 - 4. वाञ्छित

Question ID : 26433062335
Status : Answered
Chosen Option : 2

Q.7 'यह नाटक बहुत अच्छी है' – इस वाक्य में किस प्रकार की त्रुटि है, पहचान करें?

- Ans 1. लिंग संबंधी
 2. अनावश्यक शब्द संबंधी
 3. पदक्रम संबंधी
 4. वचन संबंधी

Question ID : 26433067107
Status : Answered
Chosen Option : 1

Q.8 निम्नलिखित वाक्य में रेखांकित खंड के स्थान पर प्रयुक्त होने वाले सबसे उपयुक्त विकल्प का चयन कीजिए-

उसकी आँखों से शोले टपक पड़े।

- Ans 1. क्रोध
 2. आँसू
 3. पसीना
 4. अँगारे

Question ID : 26433069748
Status : Answered
Chosen Option : 2

Q.9 निम्नलिखित में से शुद्ध वाक्य है-

- Ans 1. तुम किताब पढ़ते हो।
 2. तुम किताब पठते हो।
 3. तुम किताब पढ़ते हो।
 4. तुम कितब पढ़ते हो।

Question ID : 26433066839
Status : Answered
Chosen Option : 3

Q.10 समुद्र की आग ऊपर दिए गए वाक्यांश के लिए एक शब्द क्या होगा?

- Ans 1. जठरानल
 2. बड़वानल
 3. दावानल
 4. बड़वामुख

Question ID : 26433090350
Status : Answered
Chosen Option : 3

Q.11 'वह द्वार पर खड़ा है।' अनिश्चयवाचक सर्वनाम का प्रयोग कर इस वाक्य को लिखिए।

- Ans
- 1. मैं द्वार पर खड़ा हूँ।
 - 2. कोई द्वार पर खड़ा है।
 - 3. वह स्वयं द्वार पर खड़ा है।
 - 4. वे द्वार पर खड़े हैं।

Question ID : 26433062319
Status : Answered
Chosen Option : 2

Q.12 निम्नलिखित में से 'चपला' का अर्थ नहीं होता है-

- Ans
- 1. मन
 - 2. लक्ष्मी
 - 3. चंचल
 - 4. बिजली

Question ID : 26433080949
Status : Answered
Chosen Option : 1

Q.13 वृक्ष पर ढेरों फल लगे हैं।

उपरोक्त वाक्य में रेखांकित शब्द के उचित पर्यायवाची शब्द का चयन विकल्पों में से कीजिए।

- Ans
- 1. मृगेंद्र
 - 2. तरु
 - 3. अनार
 - 4. वसन

Question ID : 26433079723
Status : Answered
Chosen Option : 2

Q.14 'मनुष्य अपने कर्म के अनुसार फल पाता है।'

उपरोक्त वाक्य में प्रयुक्त 'फल' शब्द निम्न में से किस अर्थ को व्यक्त करता है?

- Ans
- 1. परिणाम
 - 2. वृक्ष का फल
 - 3. विकास
 - 4. विनाश

Question ID : 26433080911
Status : Answered
Chosen Option : 1

Q.15 "आज संसद में बजट के ऊपर बहस होगी।"

उपरोक्त वाक्य में कारक सम्बन्धी त्रुटि पहचानकर निम्नलिखित में से शुद्ध वाक्य का चयन कीजिए।

- Ans 1. आज संसद की बजट के ऊपर बहस होगी।
 2. आज संसद में बजट पर बहस होगी।
 3. आज संसद पर बजट की बहस होगी।
 4. आज संसद से बजट पर बहस होगी।

Question ID : 26433066969

Status : Answered

Chosen Option : 2

Comprehension:

निम्नलिखित गद्यांश में कुछ शब्दों को हटा दिया गया है। दिए गए विकल्पों की सहायता से रिक्त स्थानों की पूर्ति कीजिए। प्रत्येक संख्या के लिए सबसे उपयुक्त विकल्प का चयन कीजिए।
अनुशासन के बिना जीवन निष्क्रिय और 1. _____ हो जाता है क्योंकि योजना के अनुसार कुछ भी नहीं होता है। 2. _____ हमें किसी भी कार्य को पूरा करना है, और सही तरीके से अपनी रणनीति को लागू करना है, तो हमें पहले अनुशासन में रहने की 3. _____ है। अनुशासन चीजों को 4. _____ बनाता है और हमारे जीवन में 5. _____ लाता है।

SubQuestion No : 16

Q.16 रिक्त स्थान 1 की पूर्ति के लिए सबसे उपयुक्त विकल्प का चयन करें।

- Ans 1. सहज
 2. मज़ेदार
 3. आसान
 4. बेकार

Question ID : 264330110897

Status : Answered

Chosen Option : 4

Comprehension:

निम्नलिखित गद्यांश में कुछ शब्दों को हटा दिया गया है। दिए गए विकल्पों की सहायता से रिक्त स्थानों की पूर्ति कीजिए। प्रत्येक संख्या के लिए सबसे उपयुक्त विकल्प का चयन कीजिए।
अनुशासन के बिना जीवन निष्क्रिय और 1. _____ हो जाता है क्योंकि योजना के अनुसार कुछ भी नहीं होता है। 2. _____ हमें किसी भी कार्य को पूरा करना है, और सही तरीके से अपनी रणनीति को लागू करना है, तो हमें पहले अनुशासन में रहने की 3. _____ है। अनुशासन चीजों को 4. _____ बनाता है और हमारे जीवन में 5. _____ लाता है।

SubQuestion No : 17

Q.17 रिक्त स्थान 2 की पूर्ति के लिए सबसे उपयुक्त विकल्प का चयन करें।

- Ans 1. जबकि
 2. मगर
 3. अगर
 4. कभी

Question ID : 264330110898

Status : Answered

Chosen Option : 3

Comprehension:

निम्नलिखित गद्यांश में कुछ शब्दों को हटा दिया गया है। दिए गए विकल्पों की सहायता से रिक्त स्थानों की पूर्ति कीजिए। प्रत्येक संख्या के लिए सबसे उपयुक्त विकल्प का चयन कीजिए।
अनुशासन के बिना जीवन निष्क्रिय और 1. _____ हो जाता है क्योंकि योजना के अनुसार कुछ भी नहीं होता है। 2. _____ हमें किसी भी कार्य को पूरा करना है, और सही तरीके से अपनी रणनीति को लागू करना है, तो हमें पहले अनुशासन में रहने की 3. _____ है। अनुशासन चीजों को 4. _____ बनाता है और हमारे जीवन में 5. _____ लाता है।

SubQuestion No : 18

Q.18 रिक्त स्थान 3 की पूर्ति के लिए सबसे उपयुक्त विकल्प का चयन करें।

- Ans
- 1. मूल्यहीन
 - 2. अवशयक
 - 3. अनावश्यकता
 - 4. आवश्यकता

Question ID : 264330110899

Status : Answered

Chosen Option : 4

Comprehension:

निम्नलिखित गद्यांश में कुछ शब्दों को हटा दिया गया है। दिए गए विकल्पों की सहायता से रिक्त स्थानों की पूर्ति कीजिए। प्रत्येक संख्या के लिए सबसे उपयुक्त विकल्प का चयन कीजिए।
अनुशासन के बिना जीवन निष्क्रिय और 1. _____ हो जाता है क्योंकि योजना के अनुसार कुछ भी नहीं होता है। 2. _____ हमें किसी भी कार्य को पूरा करना है, और सही तरीके से अपनी रणनीति को लागू करना है, तो हमें पहले अनुशासन में रहने की 3. _____ है। अनुशासन चीजों को 4. _____ बनाता है और हमारे जीवन में 5. _____ लाता है।

SubQuestion No : 19

Q.19 रिक्त स्थान 4 की पूर्ति के लिए सबसे उपयुक्त विकल्प का चयन करें।

- Ans
- 1. दुर्गम
 - 2. दुर्भेद्य
 - 3. कठिन
 - 4. आसान

Question ID : 264330110900

Status : Answered

Chosen Option : 4

Comprehension:

निम्नलिखित गद्यांश में कुछ शब्दों को हटा दिया गया है। दिए गए विकल्पों की सहायता से रिक्त स्थानों की पूर्ति कीजिए। प्रत्येक संख्या के लिए सबसे उपयुक्त विकल्प का चयन कीजिए।
अनुशासन के बिना जीवन निष्क्रिय और 1. _____ हो जाता है क्योंकि योजना के अनुसार कुछ भी नहीं होता है। 2. _____ हमें किसी भी कार्य को पूरा करना है, और सही तरीके से अपनी रणनीति को लागू करना है, तो हमें पहले अनुशासन में रहने की 3. _____ है। अनुशासन चीजों को 4. _____ बनाता है और हमारे जीवन में 5. _____ लाता है।

SubQuestion No : 20

Q.20 रिक्त स्थान 5 की पूर्ति के लिए सबसे उपयुक्त विकल्प का चयन करें।

- Ans 1. बेरोजगारी
 2. सफलता
 3. कठिनता
 4. असफलता

Question ID : 264330110901

Status : Answered

Chosen Option : 2

KD Job Updates

Constable GD in CAPFs SSF Rifleman GD in Assam Rifles and Sepoy in NCB Examination 2022

Roll Number	KD Job Updates
Candidate Name	KD Job Updates
Venue Name	iON Digital Zone iDZ 1 Sector 62
Exam Date	09/02/2023
Exam Time	5:15 PM - 6:15 PM
Subject	Constable GD Examination 2022

Section : Part-A-General Intelligence and Reasoning

Q.1 उस विकल्प का चयन कीजिए जो तीसरे शब्द से उसी प्रकार संबंधित है जिस प्रकार दूसरा शब्द पहले शब्द से संबंधित है। (शब्दों को अर्थपूर्ण शब्दों के रूप में मानना है और उन्हें शब्द में अक्षरों/व्यंजनों/स्वरों की संख्या के आधार पर एक-दूसरे से संबंधित नहीं करना है।)
लीची : फल :: जाइव : ?

- Ans
- 1. नृत्य
 - 2. कंप्यूटर
 - 3. घोड़ा
 - 4. काला


Question ID : 26433079479

Status : Answered

Chosen Option : 1

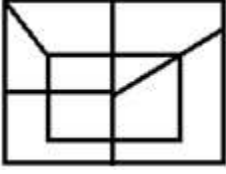
Q.2 निम्नलिखित विकल्पों में से उस आकृति का चयन करें जिसमें नीचे दी गई

आकृति निहित है (आकृति को घुमाने की अनुमति नहीं है)।

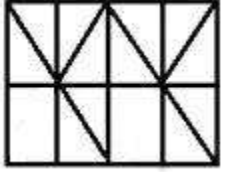


Ans

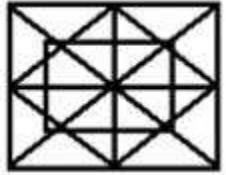
✗ 1.



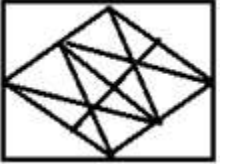
✗ 2.



✓ 3.



✗ 4.



Question ID : 26433069541

Status : Answered

Chosen Option : 3

Q.3 छः छात्र - फर्नांडीस, डिसूजा, मार्क, डमेलो, एंथनी और चार्लीन एक वृत्ताकार मेज के परितः मेज के केंद्र की ओर मुख करके बैठे हैं। फर्नांडीस, डिसूजा के दाईं ओर ठीक बगल में बैठा है। मार्क, फर्नांडीस के बाईं ओर दूसरे स्थान पर बैठा है। एंथनी, डिसूजा के दाईं ओर दूसरे स्थान पर बैठा है। डमेलो, मार्क के बाईं ओर ठीक बगल में बैठा है। चार्लीन, एंथनी के दाईं ओर ठीक बगल में बैठी है। फर्नांडीस और चार्लीन के बीच में कौन बैठा है?

Ans ✗ 1. मार्क

✗ 2. डिसूजा

✗ 3. डमेलो

✓ 4. एंथनी

Question ID : 26433081788

Status : Answered

Chosen Option : 4

Q.4 दो गई आकृति के सही दर्पण प्रतिबिम्ब का चयन करें जब दर्पण को MN पर रखा जाए जैसा कि नीचे दर्शाया गया है।

hUM65aN91Ty |
M
N

Ans

- ✗ 1. yT1eN6z@MUh
✗ 2. yTe1N6z@MUh
✗ 3. yT1eN6z@MUh
✓ 4. yT1eN6z@MUh

Question ID : 26433085541

Status : Answered

Chosen Option : 4

Q.5 एक निश्चित कूट भाषा में 'PASTE' शब्द को 'FUTBQ' लिखा जाता है। 'VIBES' शब्द को 'TFCJW' लिखा जाता है। उसी भाषा में 'START' शब्द को कैसे लिखा जाएगा?

- Ans ✗ 1. SUTBU
✗ 2. USUBT
✗ 3. TUBSU
✓ 4. USBUT

Question ID : 26433090106

Status : Answered

Chosen Option : 4

Q.6 निम्नलिखित में से कौन-सा पद दी गई शृंखला में प्रश्न-चिह्न (?) के स्थान पर आएगा?
BTLW, YXIA, VBFE, SFCI, ?

- Ans ✗ 1. PBZI
✗ 2. VJCN
✓ 3. PJZM
✗ 4. VJCM

Question ID : 26433069452

Status : Answered

Chosen Option : 3

Q.7 In a certain code language,
'A + B' means 'A is the brother of B',
'A - B' means 'A is the mother of B',
'A × B' means 'A is the son of B' and
'A ÷ B' means 'A is the sister of B'.
If $C + D - L ÷ P × Q × V$, then which of the following statements is NOT correct?

- Ans
- 1. D is V's son's wife.
 - 2. C is P's father's brother.
 - 3. L is Q's daughter.
 - 4. D is P's mother.

Question ID : 26433070376

Status : Answered

Chosen Option : 2

Q.8 किसी निश्चित कूट भाषा में, 'war door' को, 'plane potato' के रूप में कूटबद्ध किया जाता है, 'cauliflower war' को, 'racecar plane' के रूप में कूटबद्ध किया जाता है, और 'door tower' को, 'potato mountain' के रूप में कूटबद्ध किया जाता है। 'tower' शब्द का कूट क्या है?

- Ans
- 1. plane
 - 2. mountain
 - 3. potato
 - 4. racecar

Question ID : 26433069038

Status : Answered

Chosen Option : 2

Q.9 तीन कथनों के बाद तीन निष्कर्ष I, II और III दिए गए हैं। कथनों को सत्य मानते हुए, भले ही वे सामान्य रूप से ज्ञात तथ्यों से भिन्न प्रतीत होते हों, निर्धारित करें कि कौन-सा/से निष्कर्ष, कथनों का तार्किक रूप से अनुसरण करता है/करते हैं।

कथन:

सभी पेय शोक हैं।

सभी चाय शोक हैं।

सभी शोक कॉफी हैं।

निष्कर्ष:

I. सभी कॉफी चाय हैं।

II. सभी कॉफी पेय हैं।

III. कुछ कॉफी शोक हैं।

- Ans
- 1. केवल निष्कर्ष I और III अनुसरण करते हैं
 - 2. केवल निष्कर्ष II अनुसरण करता है
 - 3. केवल निष्कर्ष III अनुसरण करता है
 - 4. केवल निष्कर्ष I और II अनुसरण करते हैं

Question ID : 26433082308

Status : Answered

Chosen Option : 3

Q.10 उस विकल्प का चयन कीजिए, जो पाँचवें पद से उसी प्रकार संबंधित है, जिस प्रकार दूसरा पद पहले पद से और चौथा पद तीसरे पद से संबंधित है।
HONK : MPRK :: STAR : TCWV :: LONE : ?

- Ans 1. MQQH
 2. QPRE
 3. GPRO
 4. GPQO

Question ID : 26433058007
Status : Answered
Chosen Option : 3

Q.11 निम्नलिखित में से कौन सा विकल्प नीचे दिए गए शब्दों के उस क्रम को निरूपित करता है जिस क्रम में वे अंग्रेजी शब्दकोश में आते हैं?

1. Desist
2. Desert
3. Design
4. Deserve
5. Designate

- Ans 1. 2, 4, 3, 5, 1
 2. 2, 4, 3, 1, 5
 3. 3, 4, 2, 1, 5
 4. 2, 3, 5, 4, 1

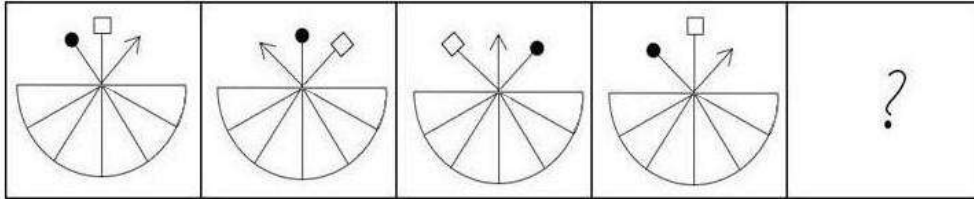
Question ID : 26433086967
Status : Answered
Chosen Option : 1

Q.12 निम्नलिखित में से कौन-सी संख्याएँ दी गई श्रृंखला में प्रश्न चिह्न (?) के स्थान पर आएंगी?
44, 47, 52, 59, 68, ?, ?, 107

- Ans 1. 80, 94
 2. 79, 92
 3. 82, 98
 4. 88, 100

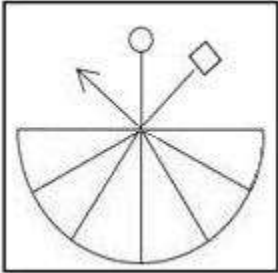
Question ID : 26433070225
Status : Answered
Chosen Option : 2

Q.13 निम्नलिखित आकृति श्रृंखला में प्रश्न-चिह्न (?) के स्थान पर नीचे दिए गए विकल्पों में से कौन-सी आकृति आएगी?

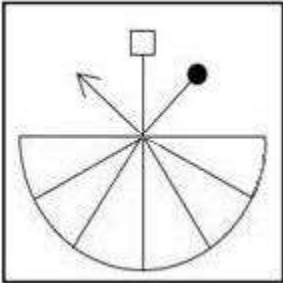


Ans

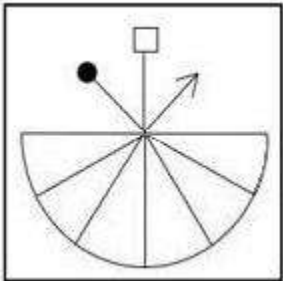
✗ 1.



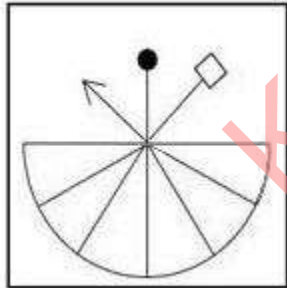
✗ 2.



✗ 3.



✓ 4.

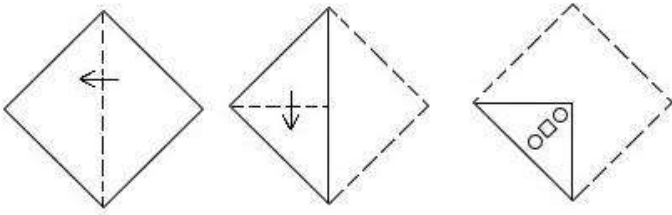


Question ID : 26433081691

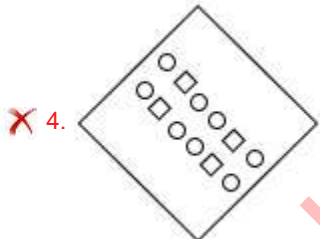
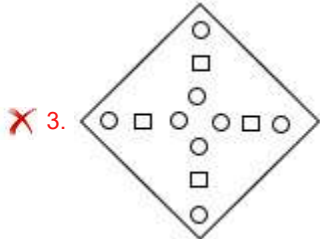
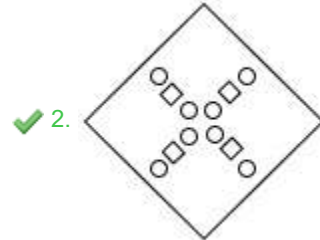
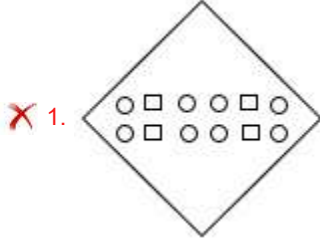
Status : Answered

Chosen Option : 4

Q.14 एक कागज को नीचे दिखाए अनुसार मोड़ा और काटा गया है। कागज की तह खुलने पर यह कैसा दिखाई देगा?



Ans



KD Job Updates

Question ID : 26433090953
 Status : Answered
 Chosen Option : 2

Q.15 नीचे दिए गए समीकरण को गणितीय रूप से सही बनाने के लिए किन संख्याओ(अंकों को नहीं) को परस्पर बदलना चाहिए?
 $162 \div 9 \times 16 + 18 - 27 = 126$

- Ans
- ✗ 1. 16 और 9
 - ✓ 2. 9 और 18
 - ✗ 3. 27 और 9
 - ✗ 4. 18 और 27

Question ID : 264330117529
 Status : Answered
 Chosen Option : 2

Q.16 सात व्यक्ति A, B, C, D, E, F और G एक सीधी पंक्ति में उत्तर की ओर मुख करके बैठे हैं। A, D के बाईं ओर तीसरे स्थान पर बैठा है। D अंतिम दाएं सिरे पर बैठा है। A और F के बीच केवल दो व्यक्ति बैठे हैं। B, F के ठीक बगल में है। C और D के बीच केवल एक व्यक्ति बैठा है। G, A के ठीक बगल में नहीं है। अंतिम बाएं सिरे पर कौन बैठा है?

- Ans
- 1. B
 - 2. F
 - 3. G
 - 4. E

Question ID : 26433056928

Status : Answered

Chosen Option : 2

Q.17 विकल्पों में दिए गए गणितीय चिह्नों का कौन सा संयोजन निम्न समीकरण में * चिह्नों के स्थान पर क्रमिक रूप से आकर समीकरण को संतुलित करेगा?
 $92 * 4 * 5 * 5 * 5 * 7$

- Ans
- 1. $\times, \div, =, -, +$
 - 2. $-, +, =, \div, \times$
 - 3. $\div, =, \times, +, -$
 - 4. $=, +, -, \times, \div$

Question ID : 26433094992

Status : Answered

Chosen Option : 3

Q.18 निम्नलिखित में से कौन-सा अक्षर-समूह दी गई श्रृंखला में प्रश्न-चिह्न (?) के स्थान पर आएगा?
EINT, DJMU, CKLV, ?, AMJX

- Ans
- 1. BLKW
 - 2. ALXW
 - 3. BMKV
 - 4. BMKX

Question ID : 26433076433

Status : Answered

Chosen Option : 1

Q.19 निम्नलिखित में से कौन सी संख्या दी गई श्रृंखला में प्रश्न चिह्न (?) के स्थान पर आएगी?
27, 28, 36, 63, ?, 252

- Ans
- 1. 130
 - 2. 127
 - 3. 125
 - 4. 131

Question ID : 26433085640

Status : Answered

Chosen Option : 2

Q.20 उस विकल्प का चयन करें जो तीसरे पद से उसी प्रकार संबंधित है, जिस प्रकार दूसरा पद पहले पद से और छठा पद पांचवे पद से संबंधित है।
14 : 203 :: 16 : ? :: 18 : 333

- Ans
- 1. 274
 - 2. 224
 - 3. 230
 - 4. 264

Question ID : 26433069091
Status : Answered
Chosen Option : 4

Section : Part-B-General Knowledge and General awareness

Q.1 _____ एक अंतरराष्ट्रीय निकाय है, जो विभिन्न देशों की सरकार को पूंजी उधार देता है।

- Ans
- 1. भारतीय रिजर्व बैंक
 - 2. विश्व बैंक
 - 3. सेंट्रल बैंक ऑफ इंडिया
 - 4. भारतीय स्टेट बैंक

Question ID : 264330115316
Status : Answered
Chosen Option : 2

Q.2 सीमा रेखा के भीतरी किनारे से बास्केटबॉल कोर्ट की भुजाओं का माप _____ होता है।

- Ans
- 1. 28×12 m
 - 2. 30×45 m
 - 3. 30×15 m
 - 4. 28×15 m

Question ID : 26433089940
Status : Answered
Chosen Option : 4

Q.3 क्षेत्रफल की दृष्टि से भारत का सबसे छोटा पड़ोसी देश कौन-सा है?

- Ans
- 1. नेपाल
 - 2. मालदीव
 - 3. भूटान
 - 4. श्रीलंका

Question ID : 264330116096
Status : Answered
Chosen Option : 2

Q.4 Charu Sija Mathur is a name that is synonymous with _____ dance.

- Ans
- 1. Chhau
 - 2. Manipuri
 - 3. Odissi
 - 4. Kuchipudi

Question ID : 264330115858
Status : Answered
Chosen Option : 1

Q.5 मेजर ध्यानचंद का जन्म भारत के निम्नलिखित में से किस शहर में हुआ था?

- Ans
- 1. इलाहाबाद
 - 2. अलीगढ़
 - 3. लखनऊ
 - 4. देहरादून

Question ID : 264330116272
Status : Answered
Chosen Option : 1

Q.6 एक ऐसे तत्व की पहचान करें, जो तीसरे आवर्त से संबंधित नहीं है।

- Ans
- 1. ब्रोमीन
 - 2. फास्फोरस
 - 3. सिलिकॉन
 - 4. आर्गन

Question ID : 26433087851
Status : Answered
Chosen Option : 1

Q.7 त्रिपुरा के मुख्यमंत्री माणिक साहा जून 2022 में हुए उपचुनाव में _____ निर्वाचन क्षेत्र से विधान सभा के सदस्य बने।

- Ans
- 1. अगरतला
 - 2. टाऊन बारडोवली
 - 3. बेलोनिया
 - 4. गकुलनगर

Question ID : 264330114970
Status : Answered
Chosen Option : 2

Q.8 2022 से भारत के 34वें विदेश सचिव के रूप में कौन कार्यरत है?

- Ans
- 1. विनय मोहन क्रात्रा
 - 2. हर्ष वर्धन श्रृंगला
 - 3. सुब्रह्मण्यम जयशंकर
 - 4. विजय केशव गोखले

Question ID : 264330115019

Status : Answered

Chosen Option : 1

Q.9 प्रधानमंत्री मुद्रा योजना (PMMY) भारत के माननीय प्रधानमंत्री द्वारा 8 अप्रैल, 2015 को गैर-कॉर्पोरेट एंटरप्राइज को _____ प्रदान करने के लिए शुरू की गई एक योजना है।

- Ans
- 1. ऋण
 - 2. कौशल प्रशिक्षण
 - 3. मकान
 - 4. सब्सिडी

Question ID : 264330116204

Status : Answered

Chosen Option : 1

Q.10 गणगौर के पर्व के दौरान निम्नलिखित में से किस हिंदू देवी की पूजा की जाती है?

- Ans
- 1. पार्वती
 - 2. काली
 - 3. लक्ष्मी
 - 4. सरस्वती

Question ID : 26433094894

Status : Answered

Chosen Option : 1

Q.11 Which of the following is an example of direct tax?

- Ans
- 1. G.S.T.
 - 2. Custom duty
 - 3. Personal income tax
 - 4. Excise tax

Question ID : 26433054778

Status : Answered

Chosen Option : 3

Q.12 भारतीय संविधान का कौन-सा अनुच्छेद भारतीय नागरिकों के लिए विभिन्न मूल कर्तव्यों को निर्धारित करता है?

- Ans
- 1. अनुच्छेद 44B
 - 2. अनुच्छेद 51A
 - 3. अनुच्छेद 74A
 - 4. अनुच्छेद 88B

Question ID : 26433054520
Status : Answered
Chosen Option : 2

Q.13 विश्व में हरित क्रांति के जनक नॉर्मन बोरलॉग को _____ से सम्मानित किया गया था।

- Ans
- 1. नोबेल शांति पुरस्कार
 - 2. वीरता पुरस्कार
 - 3. भारत रत्न
 - 4. ओलंपिक पदक

Question ID : 264330115432
Status : Answered
Chosen Option : 1

Q.14 निम्नलिखित में से कौन-सा अंतर्जनित बलों का एक उदाहरण है?

- Ans
- 1. समुद्र की लहरें
 - 2. हिमनद
 - 3. पर्वतों का निर्माण
 - 4. पवन

Question ID : 264330115999
Status : Answered
Chosen Option : 3

Q.15 भारतीय संविधान का अनुच्छेद 76 _____ से संबंधित है।

- Ans
- 1. भारत के राज्यपाल
 - 2. ग्रहमंत्री
 - 3. भारत के लिए महान्यायवादी
 - 4. मंत्री परिषद्

Question ID : 264330115660
Status : Answered
Chosen Option : 3

Q.16 1885 में आयोजित कांग्रेस के पहले अधिवेशन के अध्यक्ष कौन थे?

- Ans
- 1. दिनशॉ वाचा
 - 2. एलन ऑक्टैवियन ह्यूम
 - 3. दादाभाई नौरोजी
 - 4. व्योमेश चंद्र बनर्जी

Question ID : 26433099170

Status : Answered

Chosen Option : 4

Q.17 _____ are known as the powerhouses of the cell.

- Ans
- 1. Nucleus
 - 2. Mitochondria
 - 3. Ribosome
 - 4. Lysosomes

Question ID : 264330115237

Status : Answered

Chosen Option : 2

Q.18 Which of the following cities emerged as the second capital of the Kushanas during their empire?

- Ans
- 1. Mathura
 - 2. Pataliputra
 - 3. Kannauj
 - 4. Purushpur

Question ID : 26433089861

Status : Answered

Chosen Option : 3

Q.19 निम्नलिखित में से मिज़ोरम का लोक नृत्य कौन-सा है?

- Ans
- 1. कोली नृत्य
 - 2. धूमल नृत्य
 - 3. छाऊ नृत्य
 - 4. चेराव नृत्य

Question ID : 26433071660

Status : Answered

Chosen Option : 4

Q.20 In order to provide basic healthcare to all, _____ and _____ need to be integrated in our basic health infrastructure.

- Ans
- 1. communication and technology
 - 2. accessibility and affordability
 - 3. education and medicine
 - 4. education and technology

Question ID : 264330115563

Status : Answered

Chosen Option : 1

Section : Part-C-Elementary Mathematics

Q.1 एक व्यक्ति ने एक पुरानी साइकिल ₹1,200 में खरीदी और उसकी मरम्मत पर ₹1,800 खर्च किए। उसने इसे ₹2,400 में बेच दिया। उसका हानि प्रतिशत कितना है?

- Ans
- 1. 30 प्रतिशत
 - 2. 10 प्रतिशत
 - 3. 40 प्रतिशत
 - 4. 20 प्रतिशत

Question ID : 26433080219

Status : Answered

Chosen Option : 4

Q.2 वह छोटी से छोटी संख्या ज्ञात कीजिए, जो 8, 24 और 30 से पूर्णतः विभाज्य हो।

- Ans
- 1. 120
 - 2. 130
 - 3. 150
 - 4. 60

Question ID : 26433090278

Status : Answered

Chosen Option : 1

Q.3 एक परीक्षा में 20% छात्र अंग्रेजी में अनुत्तीर्ण हुए, 60% छात्र गणित में अनुत्तीर्ण हुए और 15% छात्र दोनों विषयों में अनुत्तीर्ण हुए। उन छात्रों का प्रतिशत ज्ञात कीजिए, जो दोनों विषयों में उत्तीर्ण हुए।

- Ans
- 1. 36%
 - 2. 40%
 - 3. 35%
 - 4. 34%

Question ID : 26433080157

Status : Answered

Chosen Option : 3

Q.4 केवल लड़कों और लड़कियों की एक कक्षा में, लड़कियों की संख्या लड़कों की संख्या से आधी है और लड़कियों के औसत अंक लड़कों के औसत अंक के दोगुने हैं। यदि कक्षा के औसत अंक 56 हैं, तो लड़कों के औसत अंक क्या हैं?

- Ans
- 1. 42
 - 2. 44
 - 3. 40
 - 4. 38

Question ID : 26433081703

Status : Answered

Chosen Option : 1

Q.5 यदि एक त्रिभुज ABC में, $AB = AC$ है और $\angle ACD = 95^\circ$ है, जहाँ रेखा BC को बढ़ाने पर D एक बाह्य बिंदु है, तो $\angle BAC$ का माप क्या है?

- Ans
- 1. 15°
 - 2. 10°
 - 3. 65°
 - 4. 55°

Question ID : 26433074241

Status : Answered

Chosen Option : 2

Q.6 यदि नियत तिथि से पहले बिजली बिल का भुगतान किया जाता है, तो बिल की राशि पर 5% की छूट प्राप्त होती है। यदि एक व्यक्ति को Rs.350 की छूट राशि प्राप्त होती है, तो बिजली बिल की राशि क्या होगी?

- Ans
- 1. Rs.8,000
 - 2. Rs.6,500
 - 3. Rs.7,000
 - 4. Rs.6,000

Question ID : 26433061073

Status : Answered

Chosen Option : 3

Q.7 अक्षरा ने एक वस्तु Rs.25,000 में बेची। यदि उसने विक्रय मूल्य पर 15% की छूट की पेशकश की होती, तो उसे 10% का लाभ होता। क्रय मूल्य क्या है?

- Ans
- 1. Rs.25,519.20
 - 2. Rs.20,318.18
 - 3. Rs.18,318.20
 - 4. Rs.19,318.18

Question ID : 26433082714

Status : Answered

Chosen Option : 3

Q.8 A, B और C एक ही समय, एक ही बिंदु से और एक ही दिशा में एक वृत्ताकार मैदान के चारों ओर दौड़ना शुरू करते हैं। A एक चक्कर 240 सेकंड में, B 300 सेकंड में और C 160 सेकंड में पूरा करता है। कितने समय के बाद वे फिर से शुरुआती बिंदु पर मिलेंगे?

- Ans
- 1. 43 मिनट
 - 2. 41 मिनट
 - 3. 42 मिनट
 - 4. 40 मिनट

Question ID : 26433082605

Status : Answered

Chosen Option : 4

Q.9 एक मूलधन 5% वार्षिक चक्रवृद्धि ब्याज की दर से 2 वर्षों में ₹441 हो जाएगा, जब ब्याज की गणना वार्षिक चक्रवृद्धि आधार पर होती है। मूलधन क्या है?

- Ans
- 1. ₹350
 - 2. ₹405
 - 3. ₹400
 - 4. ₹300

Question ID : 26433082927

Status : Answered

Chosen Option : 3

Q.10 यदि एक ठोस अर्धगोले का वक्र पृष्ठीय क्षेत्रफल $2,772 \text{ cm}^2$ है, तो उसका

आयतन ज्ञात कीजिए। (मान लीजिए $\pi = \frac{22}{7}$).

- Ans
- 1. $19,404 \text{ cm}^3$
 - 2. $29,414 \text{ cm}^3$
 - 3. $12,324 \text{ cm}^3$
 - 4. $21,134 \text{ cm}^3$

Question ID : 26433075250

Status : Answered

Chosen Option : 1

Q.11 A एक काम को 15 दिनों में कर सकता है और B उसी काम को 25 दिनों में कर सकता है। A और B मिलकर इस काम को कितने दिनों में पूरा करेंगे?

Ans

✓ 1. $9\frac{3}{8}$

✗ 2. $6\frac{5}{16}$

✗ 3. $7\frac{5}{16}$

✗ 4. $8\frac{5}{16}$

Question ID : 26433080228

Status : Answered

Chosen Option : 1

Q.12 एक राशि के लिए एक निश्चित वार्षिक दर पर वार्षिक रूप से चक्रवृद्धि होने वाला 2 वर्षों का चक्रवृद्धि ब्याज Rs.832 है और उसी राशि पर उसी अवधि और उतनी ही ब्याज दर पर साधारण ब्याज Rs.800 है। 3 वर्ष की अवधि के चक्रवृद्धि ब्याज और साधारण ब्याज में अंतर ज्ञात कीजिए।

Ans ✓ 1. Rs.98.56

✗ 2. Rs.48.00

✗ 3. Rs.66.52

✗ 4. Rs.99.48

Question ID : 26433076042

Status : Answered

Chosen Option : 1

Q.13 संख्या 'a' संख्या 'e' के व्युत्क्रमानुपाती है, और $a = 50$ होने पर $e = 22$ है। 'a' और 'e' से संबंधित समीकरण ज्ञात कीजिए।

Ans

✓ 1. $a = \frac{1100}{e}$

✗ 2. $e = 11a$

✗ 3. $a = 13e$

✗ 4. $a = \frac{1213}{e}$

Question ID : 26433080035

Status : Answered

Chosen Option : 1

Q.14 एक व्यक्ति ने ₹900 प्रत्येक की दर से 5 बैग चावल, ₹1,000 प्रत्येक की दर से 7 बैग चावल और ₹1,200 प्रत्येक की दर से 8 बैग चावल खरीदे। यदि प्रत्येक बैग में 50 kg चावल है, तो 1 kg चावल का औसत मूल्य क्या है?

- Ans
- 1. ₹19.1
 - 2. ₹21.1
 - 3. ₹25.5
 - 4. ₹20.5

Question ID : 26433081010

Status : Answered

Chosen Option : 2

Q.15 एक बेईमान दुकानदार 1 kg के बजाय 900 gm वजन का उपयोग करता है और 1 kg दाल को उसके क्रय मूल्य पर बेचता है। 10 kg दाल बेचने पर उसका लाभ प्रतिशत कितना होगा?

- Ans
- 1. $\frac{10}{9}$ %
 - 2. $1\frac{10}{9}$ %
 - 3. $1\frac{100}{9}$ %
 - 4. $\frac{100}{9}$ %

Question ID : 26433074281

Status : Answered

Chosen Option : 4

Q.16 एक रेलगाड़ी में यात्रियों की औसत संख्या पिछले वर्ष के 135408 से बढ़कर इस वर्ष 141050 हो गई। वृद्धि प्रतिशत क्या था?

- Ans
- 1. 14.15 प्रतिशत
 - 2. 10.64 प्रतिशत
 - 3. 4.16 प्रतिशत
 - 4. 5.25 प्रतिशत

Question ID : 264330116808

Status : Answered

Chosen Option : 3

Q.17 एक व्यक्ति धारा के विपरीत दिशा में 8 km/h और धारा के दिशा में 12 km/h की चाल से नौकायन कर सकता है। क्रमशः शांत जल में उस व्यक्ति की चाल और धारा की चाल ज्ञात कीजिए।

- Ans
- 1. 12 km/h और 8 km/h
 - 2. 8 km/h और 12 km/h
 - 3. 10 km/h और 2 km/h
 - 4. 2 km/h और 10 km/h

Question ID : 26433073040

Status : Answered

Chosen Option : 3

Q.18 A और B एक कार्य को 42 दिनों में कर सकते हैं, और B और C इसे 56 दिनों में कर सकते हैं। यदि B अकेला उस कार्य को 70 दिनों में कर सकता है, तो C उस कार्य को कितने दिनों में कर सकता है?

- Ans
- 1. 280 दिन
 - 2. 550 दिन
 - 3. 200 दिन
 - 4. 340 दिन

Question ID : 264330116888
Status : Answered
Chosen Option : 1

Q.19 धारा की विपरीत दिशा में 144 km जाने के लिए, एक नाविक को 12 घंटे लगते हैं, जबकि समान दूरी को धारा की दिशा में तय करने में उसे केवल 9 घंटे लगते हैं। धारा की चाल (km/h में) ज्ञात करें।

- Ans
- 1. 1.5 km/h
 - 2. 1 km/h
 - 3. 2 km/h
 - 4. 3 km/h

Question ID : 26433075815
Status : Answered
Chosen Option : 4

Q.20 a^2b और $3ab$ का तृतीय समानुपाती _____ है।

- Ans
- 1. $9a$
 - 2. $9b$
 - 3. $9ab$
 - 4. ab

Question ID : 26433075154
Status : Answered
Chosen Option : 2

Section : Part-D-English

Q.1 Select the most appropriate meaning of the underlined idiom in the given sentence.

The matrimonial alliance between the two kingdoms was actually a Judas kiss.

- Ans
- 1. Made through intense bloodshed
 - 2. Incestuous relationship
 - 3. A strong bond
 - 4. Deceitful pretence of friendship

Question ID : 26433072090
Status : Answered
Chosen Option : 4

Q.2 Select the INCORRECTLY spelt word.

- Ans
- 1. Contagious
 - 2. Irreparable
 - 3. Teelotaler
 - 4. Unanimously

Question ID : 26433084698
Status : Answered
Chosen Option : 3

Q.3 A part of the given sentence which has been underlined may contain a spelling error. Select the option that correctly rectifies the spelling error. If there is no error, select 'No error'.

Writing under a pseudonym might not give one the actual recognition that he/she deserves.

- Ans
- 1. No error
 - 2. Pseudonym
 - 3. Pseudoniem
 - 4. Psaudonym

Question ID : 26433071790
Status : Answered
Chosen Option : 2

Q.4 Select the most appropriate synonym of the given word.

Gigantic

- Ans
- 1. Small
 - 2. Huge
 - 3. Idle
 - 4. Tiny

Question ID : 26433074048
Status : Answered
Chosen Option : 2

Q.5 Select the most appropriate ANTONYM of the word given in the bracket to fill in the blank.

He was absolutely (courteous)_____ to me.

- Ans
- 1. discourteous
 - 2. polite
 - 3. genteel
 - 4. solicitous

Question ID : 26433059596
Status : Answered
Chosen Option : 1

Q.6 Parts of the following sentence have been given as options. Select the option that contains an error.

I told Jack that we seen a good film last week with our friends from Mexico.

- Ans
- 1. week with our
 - 2. I told Jack that we
 - 3. friends from Mexico
 - 4. seen a good film last

Question ID : 26433088468
Status : Answered
Chosen Option : 4

Q.7 Select the most appropriate ANTONYM of the underlined word in the given sentence.

Sanjeev is always busy with his business activities.

- Ans
- 1. idle
 - 2. enthusiastic
 - 3. engaged
 - 4. active

Question ID : 26433092093
Status : Answered
Chosen Option : 1

Q.8 Select the word that is similar in meaning to the underlined word.

This course will provide you with a rudimentary knowledge of Sanskrit.

- Ans
- 1. Exhaustive
 - 2. Extensive
 - 3. Intricate
 - 4. Elementary

Question ID : 26433087947
Status : Answered
Chosen Option : 4

Q.9 Select the most appropriate option that can substitute the underlined segment in the given sentence. If there is no need to substitute it, select 'No substitution required'.

The purchase of computers is sure to cost more than you estimate.

- Ans
- 1. is sure of costing
 - 2. is sure of cost
 - 3. No substitution required
 - 4. is sure to costing

Question ID : 26433092110
Status : Answered
Chosen Option : 1

Q.10 Select the most appropriate meaning of the underlined idiom.

One can always start off with a clean slate for a new and better life.

- Ans
- 1. An innocent man who has nothing to spend
 - 2. A person with no crimes to his record
 - 3. Situation in which you can start again
 - 4. Provide a clear record to one's superiors

Question ID : 26433073207
Status : Answered
Chosen Option : 1

Q.11 Select the most appropriate option to substitute the underlined segment in the given sentence.

My friend has been a teacher since 10 years.

- Ans
- 1. from 10 years
 - 2. within 10 years
 - 3. till 10 years
 - 4. for 10 years

Question ID : 26433099059
Status : Answered
Chosen Option : 4

Q.12 Select the most appropriate synonym of the word given in brackets to fill in the blank.

Technology has _____ (supreme) importance in the life of modern men.

- Ans
- 1. profuse
 - 2. magnanimous
 - 3. miraculous
 - 4. paramount

Question ID : 26433070466
Status : Answered
Chosen Option : 4

Q.13 Select the most appropriate synonym of the given word.

Confined

- Ans
- 1. Extravagant
 - 2. Diluted
 - 3. Limited
 - 4. Halted

Question ID : 26433088758
Status : Answered
Chosen Option : 3

Q.14 Select the most appropriate option that can substitute the underlined segment in the given sentence. If there is no need to substitute it, select 'No substitution'.

Alice won't be coming to the concert as she was ill.

- Ans
- 1. she is going to be
 - 2. she will be
 - 3. No substitution
 - 4. she is

Question ID : 26433088909

Status : Answered

Chosen Option : 4

Q.15 Select the most appropriate ANTONYM of the given word.

Enormous

- Ans
- 1. Gorgeous
 - 2. Tiny
 - 3. Broad
 - 4. Huge

Question ID : 26433073921

Status : Answered

Chosen Option : 2

Comprehension:

In the following passage, some words have been deleted. Read the passage carefully and select the most appropriate option to fill in each blank.

Management like any other art can be learnt and developed. Management means managing all our (1)_____ - money, material, machines and most importantly, manpower. Since we can maximise (2)_____ only through people they have to be treated well. (3)_____ is the key to man-management. People can be forced to work but they have to be motivated to work well. People can be motivated as much through (4)_____ for doing their best as through timely and brief reprimands for poor performance. In order to maximise production, a manager will have to be 'tough and nice', not 'nice and tough' because everyone needs not only to be praised but also (5)_____.

SubQuestion No : 16

Q.16 Select the most appropriate option to fill in blank 1.

- Ans
- 1. Activities
 - 2. Resources
 - 3. Features
 - 4. Characters

Question ID : 26433092904

Status : Answered

Chosen Option : 2

Comprehension:

In the following passage, some words have been deleted. Read the passage carefully and select the most appropriate option to fill in each blank.

Management like any other art can be learnt and developed. Management means managing all our (1)_____ - money, material, machines and most importantly, manpower. Since we can maximise (2)_____ only through people they have to be treated well. (3)_____ is the key to man-management. People can be forced to work but they have to be motivated to work well. People can be motivated as much through (4)_____ for doing their best as through timely and brief reprimands for poor performance. In order to maximise production, a manager will have to be 'tough and nice', not 'nice and tough' because everyone needs not only to be praised but also (5)_____.

SubQuestion No : 17

Q.17 Select the most appropriate option to fill in blank 2.

- Ans 1. affection
 2. productivity
 3. richness
 4. complexity

Question ID : 26433092905

Status : Answered

Chosen Option : 2

Comprehension:

In the following passage, some words have been deleted. Read the passage carefully and select the most appropriate option to fill in each blank.

Management like any other art can be learnt and developed. Management means managing all our (1)_____ - money, material, machines and most importantly, manpower. Since we can maximise (2)_____ only through people they have to be treated well. (3)_____ is the key to man-management. People can be forced to work but they have to be motivated to work well. People can be motivated as much through (4)_____ for doing their best as through timely and brief reprimands for poor performance. In order to maximise production, a manager will have to be 'tough and nice', not 'nice and tough' because everyone needs not only to be praised but also (5)_____.

SubQuestion No : 18

Q.18 Select the most appropriate option to fill in blank 3.

- Ans 1. Mindfulness
 2. Motivation
 3. Preservation
 4. Observation

Question ID : 26433092906

Status : Answered

Chosen Option : 3

Comprehension:

In the following passage, some words have been deleted. Read the passage carefully and select the most appropriate option to fill in each blank.

Management like any other art can be learnt and developed. Management means managing all our (1)_____ - money, material, machines and most importantly, manpower. Since we can maximise (2)_____ only through people they have to be treated well. (3)_____ is the key to man-management. People can be forced to work but they have to be motivated to work well. People can be motivated as much through (4)_____ for doing their best as through timely and brief reprimands for poor performance. In order to maximise production, a manager will have to be 'tough and nice', not 'nice and tough' because everyone needs not only to be praised but also (5)_____.

SubQuestion No : 19

Q.19 Select the most appropriate option to fill in blank 4.

- Ans
- 1. power
 - 2. pampering
 - 3. penalty
 - 4. praise

Question ID : 26433092907

Status : Answered

Chosen Option : 4

Comprehension:

In the following passage, some words have been deleted. Read the passage carefully and select the most appropriate option to fill in each blank.

Management like any other art can be learnt and developed. Management means managing all our (1)_____ - money, material, machines and most importantly, manpower. Since we can maximise (2)_____ only through people they have to be treated well. (3)_____ is the key to man-management. People can be forced to work but they have to be motivated to work well. People can be motivated as much through (4)_____ for doing their best as through timely and brief reprimands for poor performance. In order to maximise production, a manager will have to be 'tough and nice', not 'nice and tough' because everyone needs not only to be praised but also (5)_____.

SubQuestion No : 20

Q.20 Select the most appropriate option to fill in blank 5.

- Ans
- 1. commanded
 - 2. disappointed
 - 3. emphasised
 - 4. reprimanded

Question ID : 26433092908

Status : Answered

Chosen Option : 4

Q.1 जो शब्द क्रिया की विशेषता बताएं उन्हें कहते हैं-

- Ans
- 1. सर्वनाम
 - 2. क्रिया विशेषण
 - 3. समुच्चयबोधक
 - 4. विशेषण

Question ID : 26433085044

Status : Not Answered

Chosen Option : --

Q.2 निम्न में से कौन-सा शब्द समूह 'तालाब' शब्द का पर्यायवाची समूह नहीं है?

- Ans
- 1. तड़ाग, सर, सरोवर
 - 2. सरिता, हिम, सागर
 - 3. जलाशय, पुष्कर, सरोवर
 - 4. सर, तड़ाग, पुष्कर

Question ID : 26433067071

Status : Not Answered

Chosen Option : --

Q.3 निम्न वाक्यांश के लिए सार्थक शब्द/सही विकल्प चुनें।
जो सब कुछ जानता है

- Ans
- 1. सामंत
 - 2. सर्वेसर्वा
 - 3. सर्वस्व
 - 4. सर्वज्ञ

Question ID : 26433066929

Status : Not Answered

Chosen Option : --

Q.4 "अजय की बुद्धि भ्रष्ट हो गई है।"
उक्त वाक्य में प्रयुक्त 'बुद्धि' के स्थान पर उसके समानार्थी शब्द का प्रयोग निम्न में से किस वाक्य में नहीं किया गया है?

- Ans
- 1. अजय की अक्ल भ्रष्ट हो गई है।
 - 2. अजय की विधु भ्रष्ट हो गई है।
 - 3. अजय की मति भ्रष्ट हो गई है।
 - 4. अजय की समझ भ्रष्ट हो गई है।

Question ID : 26433067032

Status : Not Answered

Chosen Option : --

Q.5 'थाली का बैंगन होना' मुहावरे का सही अर्थ है -

- Ans
- 1. जल्दी दोस्त बन जाना
 - 2. सिद्धांतहीन व्यक्ति होना
 - 3. इधर उधर की बातें करना
 - 4. बैंगन की सब्जी बनाना

Question ID : 26433065924

Status : Not Answered

Chosen Option : --

Q.6 विधवा स्त्री हिंदू समाज की सबसे दयनीय प्राणी है और _____ स्त्री हर रीति-रिवाज को निभाने की अधिकारिणी।

'विधवा' के विलोम शब्द से उक्त वाक्य के रिक्त स्थान की पूर्ति करें।

- Ans
- 1. सधवा
 - 2. सबला
 - 3. सौभाग्यशालिनी
 - 4. सुलक्षणा

Question ID : 26433080870

Status : Not Answered

Chosen Option : --

Q.7 निम्नलिखित में से 'सर्वनाम' सम्बन्धी अशुद्धि वाले वाक्य की पहचान कीजिये-

- Ans
- 1. तुम तुम्हारा काम करो।
 - 2. मैं सदैव समय पर कार्यालय जाता हूँ।
 - 3. कृपया आप जल्दी आयें।
 - 4. रमा तुम्हें विद्यालय पहुँचा देगी।

Question ID : 26433063005

Status : Not Answered

Chosen Option : --

Q.8 '_____ पोछना' इस मुहावरे को पूरा करें।

- Ans
- 1. कान
 - 2. आँसू
 - 3. हाथ
 - 4. पैर

Question ID : 26433066814

Status : Not Answered

Chosen Option : --

Q.9 'शराब पीनी बुरी आदत है।' इस वाक्य में अशुद्ध शब्द है-

- Ans 1. पीनी
 2. शराब
 3. बुरी
 4. आदत

Question ID : 26433066796

Status : Not Answered

Chosen Option : --

Q.10 'आज खेत में एक विषधर देखा वह बहुत ही खतरनाक _____ था।'
'साँप' के पर्याय से उक्त वाक्य के रिक्त स्थान की पूर्ति कीजिए।

- Ans 1. सारंग
 2. भुजंग
 3. नाराच
 4. केशरी

Question ID : 26433084986

Status : Not Answered

Chosen Option : --

Q.11 निम्नलिखित वाक्य में रेखांकित खंड के स्थान पर प्रयुक्त होने वाले सबसे उपयुक्त विकल्प का चयन कीजिए।
ऑचल ने सबकी नाक में द्राम कर रखा है।

- Ans 1. मूल्य
 2. कीमत
 3. दम
 4. बाम

Question ID : 26433079567

Status : Not Answered

Chosen Option : --

Q.12 निम्न वाक्यांश के लिए एक शब्द क्या होगा?
जो स्मरण करने योग्य है

- Ans 1. पूजनीय
 2. अनुकरणीय
 3. स्मरणीय
 4. गवेषणीय

Question ID : 26433070098

Status : Not Answered

Chosen Option : --

Q.13 निम्नलिखित विकल्पों में से 'परम्परा से सुना हुआ' वाक्यांश के लिए एक सार्थक शब्द क्या होगा?

- Ans
- 1. आशातीत
 - 2. अनुश्राविक
 - 3. वन्दनीय
 - 4. कर्णप्रिय

Question ID : 26433062471

Status : Not Answered

Chosen Option : --

Q.14 'रोहन रात में भोजन नहीं खाता।'
उपरोक्त वाक्य के किस भाग में अशुद्धि है?

- Ans
- 1. रोहन
 - 2. नहीं खाता।
 - 3. भोजन
 - 4. रात में

Question ID : 26433092142

Status : Not Answered

Chosen Option : --

Q.15 निम्नलिखित में से शुद्ध वाक्य का चयन कीजिये-

- Ans
- 1. तमाम देश भर में यह बात फैल गई।
 - 2. देशभर में यह बात फैल गयी।
 - 3. तमाम देश भर में फैल गई है बात।
 - 4. देशभर में यह बात फैली गई।

Question ID : 26433062824

Status : Not Answered

Chosen Option : --

Comprehension:

निम्न गद्यांश के आधार पर प्रश्न संख्या 1-5 के उत्तर दीजिए।

बच्चों पर ही 1. _____ निर्भर है और वही हमारी 2. _____ हैं। इसलिए आज संसार में 3. _____ की मनोवृत्ति और विचार शैली को शिक्षा द्वारा बदलने का प्रयास किया जा रहा है। यदि हमें 4. _____ की चिन्ता है, तो हमें 5. _____ की भी चिन्ता करनी होगी।

SubQuestion No : 16

Q.16 गद्यांश में रिक्त स्थान 1 की पूर्ति के लिए सबसे उपयुक्त विकल्प का चयन विकल्पों में से कीजिए।

- Ans
- 1. भविष्य
 - 2. ब्रह्मांड
 - 3. भूत
 - 4. वर्तमान

Question ID : 26433092001

Status : Not Answered

Chosen Option : --

Comprehension:

निम्न गद्यांश के आधार पर प्रश्न संख्या 1-5 के उत्तर दीजिए।

बच्चों पर ही 1. _____ निर्भर है और वही हमारी 2. _____ हैं। इसलिए आज संसार में 3. _____ की मनोवृत्ति और विचार शैली को शिक्षा द्वारा बदलने का प्रयास किया जा रहा है। यदि हमें 4. _____ की चिन्ता है, तो हमें 5. _____ की भी चिन्ता करनी होगी।

SubQuestion No : 17

Q.17 गद्यांश में रिक्त स्थान 2 की पूर्ति के लिए सबसे उपयुक्त विकल्प का चयन विकल्पों में से कीजिए।

- Ans
- 1. बेसहारा
 - 2. भविष्य
 - 3. निराशा
 - 4. आशा

Question ID : 26433092002

Status : Not Answered

Chosen Option : --

Comprehension:

निम्न गद्यांश के आधार पर प्रश्न संख्या 1-5 के उत्तर दीजिए।

बच्चों पर ही 1. _____ निर्भर है और वही हमारी 2. _____ हैं। इसलिए आज संसार में 3. _____ की मनोवृत्ति और विचार शैली को शिक्षा द्वारा बदलने का प्रयास किया जा रहा है। यदि हमें 4. _____ की चिन्ता है, तो हमें 5. _____ की भी चिन्ता करनी होगी।

SubQuestion No : 18

Q.18 गद्यांश में रिक्त स्थान 3 की पूर्ति के लिए सबसे उपयुक्त विकल्प का चयन विकल्पों में से कीजिए।

- Ans
- 1. बुजुर्गों
 - 2. नेता
 - 3. बच्चों
 - 4. विचार

Question ID : 26433092003

Status : Not Answered

Chosen Option : --

Comprehension:

निम्न गद्यांश के आधार पर प्रश्न संख्या 1-5 के उत्तर दीजिए।

बच्चों पर ही 1. _____ निर्भर है और वही हमारी 2. _____ हैं। इसलिए आज संसार में 3. _____ की मनोवृत्ति और विचार शैली को शिक्षा द्वारा बदलने का प्रयास किया जा रहा है। यदि हमें 4. _____ की चिन्ता है, तो हमें 5. _____ की भी चिन्ता करनी होगी।

SubQuestion No : 19

Q.19 गद्यांश में रिक्त स्थान 4 की पूर्ति के लिए सबसे उपयुक्त विकल्प का चयन विकल्पों में से कीजिए।

- Ans
- 1. भूत
 - 2. वर्तमान
 - 3. भविष्य
 - 4. ब्रह्मांड

Question ID : 26433092004

Status : Not Answered

Chosen Option : --

Comprehension:

निम्न गद्यांश के आधार पर प्रश्न संख्या 1-5 के उत्तर दीजिए।

बच्चों पर ही 1. _____ निर्भर है और वही हमारी 2. _____ हैं। इसलिए आज संसार में 3. _____ की मनोवृत्ति और विचार शैली को शिक्षा द्वारा बदलने का प्रयास किया जा रहा है। यदि हमें 4. _____ की चिन्ता है, तो हमें 5. _____ की भी चिन्ता करनी होगी।

SubQuestion No : 20

Q.20 गद्यांश में रिक्त स्थान 5 की पूर्ति के लिए सबसे उपयुक्त विकल्प का चयन विकल्पों में से कीजिए।

- Ans**
- 1. बुजुर्गों
 - 2. प्रौढ़ों
 - 3. बच्चों
 - 4. कल्याण

Question ID : 26433092005

Status : Not Answered

Chosen Option : --

KD Job Updates

Q.4 छः लड़के - M, G, V, A, R और D एक सीधी पंक्ति में उत्तर की ओर मुख करके खड़े हैं। G के बाईं ओर केवल तीन लड़के खड़े हैं। M, बाएं सिरे से दूसरे स्थान पर खड़ा है। G और A के बीच में केवल D खड़ा है। दाएं सिरे से दूसरे स्थान पर कौन खड़ा है?

- Ans
- 1. R
 - 2. V
 - 3. D
 - 4. A

Question ID : 26433079061

Status : Answered

Chosen Option : 3

Q.5 कौन-सा अक्षर-समूह दी गई श्रृंखला में प्रश्नचिह्न (?) के स्थान पर आकर श्रृंखला को पूर्ण करेगा?
RQPS, NMLO, JIHK, ?, BAZC

- Ans
- 1. FEDG
 - 2. GEFH
 - 3. GFEH
 - 4. FDEG

Question ID : 26433067718

Status : Answered

Chosen Option : 1

Q.6 उस विकल्प का चयन कीजिए जो तीसरे शब्द से उसी प्रकार संबंधित है जिस प्रकार दूसरा शब्द पहले शब्द से संबंधित है। (शब्दों को अर्थपूर्ण शब्दों के रूप में मानना है और उन्हें शब्द में अक्षरों/व्यंजनों/स्वरों की संख्या के आधार पर एक-दूसरे से संबंधित नहीं करना है।)
वोकल कॉर्ड (स्वर रज्जु) : गायक :: पैर : ?

- Ans
- 1. शिक्षक
 - 2. वैज्ञानिक
 - 3. डॉक्टर
 - 4. फुटबॉलर

Question ID : 26433079467

Status : Answered

Chosen Option : 4

Q.7 दी गई आकृति के सही दर्पण प्रतिबिंब का चयन करें जब दर्पण नीचे दर्शाए गए अनुसार MN पर रखा जाता है।



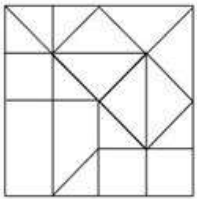
- Ans
- 1. 2025hF56U
 - 2. 2025rF56U
 - 3. 2025rF27U
 - 4. 2025rF56U

Question ID : 26433089459

Status : Answered

Chosen Option : 2

Q.8 उस विकल्प आकृति का चयन करें जो दी गई आकृति में अंतर्निहित है (घुमाने की अनुमति नहीं है)।



- Ans
- 1.
 - 2.
 - 3.
 - 4.

Question ID : 26433069483

Status : Answered

Chosen Option : 1

Q.9 निम्नलिखित में से कौन-सी संख्या दी गई श्रृंखला में प्रश्न-चिह्न (?) को प्रतिस्थापित करेगी?
96, 90, ?, 60, 36, 6

- Ans
- 1. 70
 - 2. 72
 - 3. 78
 - 4. 84

Question ID : 26433069391
Status : Answered
Chosen Option : 3

Q.10 उस विकल्प का चयन कीजिए जो तीसरे शब्द से उसी प्रकार संबंधित है जिस प्रकार दूसरा शब्द पहले शब्द से संबंधित है। (शब्दों को अर्थपूर्ण शब्दों के रूप में मानना है और उन्हें शब्द में अक्षरों/व्यंजनों/स्वरों की संख्या के आधार पर एक-दूसरे से संबंधित नहीं करना है।)
ऊपर : नीचे :: पीछे जाना : ?

- Ans
- 1. सीधा होना
 - 2. आगे बढ़ना
 - 3. निम्न
 - 4. उठाना

Question ID : 26433067975
Status : Answered
Chosen Option : 2

Q.11 नीचे दिए गए समीकरण को गणितीय रूप से सही बनाने के लिए किन दो चिन्हों को परस्पर बदलना चाहिए?
 $104 \div 8 - 24 \times 5 + 9 = 34$

- Ans
- 1. + और ÷
 - 2. ÷ और ×
 - 3. + और ×
 - 4. - और +

Question ID : 264330117518
Status : Answered
Chosen Option : 3

Q.12 छः विद्यार्थी एक वृत्ताकार मेज के परितः मेज के केंद्र की ओर मुख करके बैठे हैं। सैम, कृष के दाईं ओर दूसरे स्थान पर बैठा है। विशाल, सैम के दाईं ओर दूसरे स्थान पर बैठा है। सेवियो, सैम के दाईं ओर तीसरे स्थान पर बैठा है। मिशेल, सैम और कृष के ठीक बगल में है। डिक्सन, कृष के दाईं ओर तीसरे स्थान पर बैठा है। विशाल और कृष के बीच में कौन बैठा है?

- Ans
- 1. डिक्सन
 - 2. सैम
 - 3. मिशेल
 - 4. सेवियो

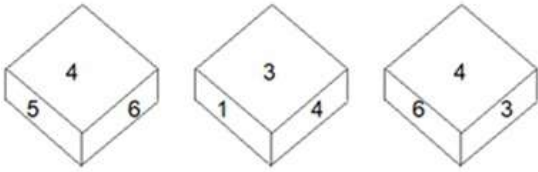
Question ID : 26433081777
Status : Answered
Chosen Option : 4

Q.13 दिए गए विकल्पों में से उस अक्षर-समूह का चयन कीजिए जो निम्न श्रृंखला में प्रश्न-चिह्न (?) के स्थान पर आ सकता है।
JDZW, NWDA, RPHE, ? , ZBPM

- Ans 1. VILI
 2. TYID
 3. TVSG
 4. VTHX

Question ID : 26433074746
Status : Answered
Chosen Option : 1

Q.14 एक ही पासे की तीन अलग-अलग स्थितियां दर्शाई गई हैं। '2' वाले फलक के विपरीत फलक पर संख्या ज्ञात करें।



आकृति 1 आकृति 2 आकृति 3

- Ans 1. 6
 2. 4
 3. 1
 4. 3

Question ID : 26433089454
Status : Answered
Chosen Option : 2

Q.15 किस विकल्प में निम्नलिखित शब्दों का वह क्रम दिया गया है, जिस क्रम में वे अंग्रेजी शब्दकोश में आते हैं?

- 1 inside
2 insert
3 insist
4 inert
5 investigate

- Ans 1. 4,2,1,3,5
 2. 1,2,3,4,5
 3. 4,3,1,2,5
 4. 4,1,2,3,5

Question ID : 26433069290
Status : Answered
Chosen Option : 1

Q.16 तीन कथन दिए गए हैं, जिनके बाद तीन निष्कर्ष I, II और III दिए गए हैं। कथनों को सत्य मानते हुए, भले ही वे सामान्य रूप से ज्ञात तथ्यों से भिन्न प्रतीत होते हों, निर्धारित करें कि कौन-सा/से निष्कर्ष कथनों का तार्किक रूप से अनुसरण करता है/करते हैं।

कथन:

सभी बैग छड़ियां हैं।
सभी पेड़ कागज हैं।
कुछ छड़ियां कागज हैं।

निष्कर्ष:

I. कुछ छड़ियां पेड़ हैं।
II. कुछ कागज पेड़ हैं।
III. कोई बैग कागज नहीं है।

- Ans
- 1. सभी निष्कर्ष अनुसरण करते हैं
 - 2. केवल निष्कर्ष III अनुसरण करता है
 - 3. केवल निष्कर्ष I और III अनुसरण करते हैं
 - 4. केवल निष्कर्ष II अनुसरण करता है

Question ID : 2643309095

Status : Answered

Chosen Option : 4

Q.17 'A + B' का अर्थ है कि 'A, B का भाई है'
'A - B' का अर्थ है कि 'A, B की पत्नी है'
'A × B' का अर्थ है कि 'A, B का पुत्र है'
'A ÷ B' का अर्थ है कि 'A, B का पति है'
यदि $P + Q - S + R \times L \div M$ है, तो निम्नलिखित में से कौन-सा कथन सही है?

- Ans
- 1. P, S की पत्नी का भाई है।
 - 2. P, S का भाई है।
 - 3. Q, M की बहन है।
 - 4. L, P का पिता है।

Question ID : 26433069661

Status : Answered

Chosen Option : 1

Q.18 एक निश्चित कूट भाषा में, 'SHAKE' को 'HKSAE' के रूप में लिखा जाता है, 'RIVER' को 'RRVEI' के रूप में लिखा जाता है, उसी भाषा में 'OCEAN' को कैसे लिखा जाएगा?

- Ans
- 1. AEOCN
 - 2. CNOEA
 - 3. CNAEO
 - 4. EACNO

Question ID : 26433069653

Status : Answered

Chosen Option : 3

Q.19 निम्न में से कौन सी संख्या दी गई श्रृंखला में प्रश्नचिह्न (?) के स्थान पर आएगी?
8, 18, 32, ?, 72, 98

- Ans 1. 46
 2. 50
 3. 40
 4. 54

Question ID : 26433076739
 Status : Answered
 Chosen Option : 2

Q.20 यदि श्रृंखला जारी रखनी है तो कौन-सी आकृति प्रश्न चिह्न (?) के स्थान पर आएगी?

L P	D	3	L □	
D 3	□ L P	□ P	D 3	?
□	3	D L	P	

Ans

1.

P
D L 3
□
2.

P
3 L D
□
3.

P
D 3
□ L
4.

L D
P □
3

Question ID : 26433076642
 Status : Answered
 Chosen Option : 4

Q.1 निम्नलिखित लोकनृत्यों में से कौन-सा 'छड़ी नृत्य (stick dance)' के नाम से प्रसिद्ध है?

- Ans
- 1. थैय्यम
 - 2. घोडेमोडणी
 - 3. कोलनालु
 - 4. कोली

Question ID : 264330115070

Status : Not Answered

Chosen Option : --

Q.2 जुलाई 2022 में, नेशनल इंस्टीट्यूट फॉर ट्रांसफॉर्मिंग इंडिया (नीति) आयोग के मुख्य कार्यकारी अधिकारी के रूप में पदभार किसने संभाला?

- Ans
- 1. परमेश्वरन अय्यर
 - 2. अजय धानी
 - 3. नरेंद्र सिंह तोमर
 - 4. अरविंद विरमानी

Question ID : 264330115008

Status : Answered

Chosen Option : 1

Q.3 _____ बैंक अपने ग्राहकों के स्वामित्व में होते हैं और एक व्यक्ति, एक मत के सहकारी सिद्धांत का अनुसरण करते हैं।

- Ans
- 1. राष्ट्रीयकृत
 - 2. अनुसूचित
 - 3. राज्य
 - 4. सहकारी

Question ID : 264330115305

Status : Answered

Chosen Option : 4

Q.4 उपभोक्ता संरक्षण अधिनियम भारत में _____ स्तरीय उपभोक्ता विवाद निवारण एजेंसियों के लिए योजना करता है।

- Ans
- 1. चार
 - 2. तीन
 - 3. दो
 - 4. एक

Question ID : 264330116238

Status : Not Answered

Chosen Option : --

Q.5 निम्नलिखित में से किस राज्य ने खेलो इंडिया यूथ गेम्स 2021 की मेजबानी की?

- Ans
- 1. मध्य प्रदेश
 - 2. महाराष्ट्र
 - 3. हरियाणा
 - 4. पंजाब

Question ID : 264330115916

Status : Answered

Chosen Option : 1

Q.6 कृषि और मछली पकड़ने की गतिविधियाँ किस क्षेत्र से संबंधित हैं?

- Ans
- 1. द्वितीयक क्षेत्र
 - 2. संगठित क्षेत्र
 - 3. प्राथमिक क्षेत्र
 - 4. तृतीयक क्षेत्र

Question ID : 264330116090

Status : Answered

Chosen Option : 3

Q.7 संगीत नाटक अकादमी फेलोशिप सम्मान में _____ शामिल होते हैं।

- Ans
- 1. एक ताम्रपत्र और अंगवस्त्र के साथ 1,00,000/- रुपए (एक लाख रुपये)
 - 2. एक ताम्रपत्र और अंगवस्त्र के साथ 3,00,000/- रुपए (तीन लाख रुपये)
 - 3. 5,00,000/- रुपए (पांच लाख रुपये)
 - 4. 1,00,000/- रुपए (एक लाख रुपये)

Question ID : 264330115892

Status : Not Attempted and Marked For Review

Chosen Option : --

Q.8 ठोस कार्बन डाइऑक्साइड को सामान्यतः _____ कहा जाता है।

- Ans
- 1. भारी जल
 - 2. शुष्क बर्फ
 - 3. टेबल शूगर
 - 4. एस्पिरिन

Question ID : 264330115156

Status : Answered

Chosen Option : 2

Q.9 विधानपरिषद के कुल सदस्यों की संख्या राज्य विधानसभा के सदस्यों की कुल संख्या के _____ से अधिक नहीं होगी, किंतु यह सदस्य संख्या किसी भी स्थिति में 40 से कम नहीं होनी चाहिए।

- Ans 1. 1/3
 2. 1/10
 3. 1/6
 4. 1/8

Question ID : 26433086862
Status : Answered
Chosen Option : 2

Q.10 तेल का वनस्पति में रूपांतरण क्या कहलाता है?

- Ans 1. हाइड्रोजनीकरण
 2. पाचुरीकरण
 3. संरक्षण
 4. समांगीकरण

Question ID : 264330115263
Status : Answered
Chosen Option : 1

Q.11 निम्नलिखित में से किसे सितंबर 2022 में नए चीफ ऑफ डिफेन्स स्टाफ के रूप में नियुक्त किया गया था?

- Ans 1. मनोज पांडे
 2. अनिल चौहान
 3. बिपिन रावत
 4. अजय सिंह

Question ID : 264330114921
Status : Answered
Chosen Option : 2

Q.12 ऊर्जा बचाने के लिए देश भर में _____ को बढ़ावा दिया जाता है।

- Ans 1. कॉम्पैक्ट फ्लोरोसेंट लैंप
 2. तापदीप्त बल्ब
 3. प्रकाश उत्सर्जक डायोड लैंप
 4. तेल लैंप

Question ID : 264330115552
Status : Not Attempted and Marked For Review
Chosen Option : --

Q.13 1920 में, भारतीय कम्युनिस्ट पार्टी (CPI) की स्थापना कहां हुई थी?

- Ans
- 1. नमनगन
 - 2. ताशकंद
 - 3. बुखारा
 - 4. अंदिजन

Question ID : 264330115712
Status : Not Answered
Chosen Option : --

Q.14 दो पक्षों के बीच किए गए व्यापार समझौते को _____ समझौता कहा जाता है।

- Ans
- 1. एकपक्षीय
 - 2. द्विपक्षीय
 - 3. त्रिपक्षीय
 - 4. बहुपक्षीय

Question ID : 264330115385
Status : Answered
Chosen Option : 2

Q.15 महावीर जयंती _____ के महीने में मनाई जाती है।

- Ans
- 1. अगस्त-सितम्बर
 - 2. मई-जून
 - 3. मार्च-अप्रैल
 - 4. नवम्बर-दिसम्बर

Question ID : 264330115097
Status : Not Answered
Chosen Option : --

Q.16 खासी पहाड़ियों के _____ में मासिनराम दुनिया में सबसे अधिक औसत वर्षा प्राप्त करता है।

- Ans
- 1. पश्चिमी भाग
 - 2. दक्षिणी भाग
 - 3. पूर्वी भाग
 - 4. उत्तरी भाग

Question ID : 26433091489
Status : Answered
Chosen Option : 2

Q.17 निम्नलिखित में से कौन सा एक बैंक के लिए एक संपत्ति बनाता है?

I. आरक्षित निधि

II. ऋण

- Ans
- 1. केवल II
 - 2. ना तो I और ना ही II
 - 3. I और II दोनों
 - 4. केवल I

Question ID : 26433054801

Status : Answered

Chosen Option : 3

Q.18 1829 में स्थापित _____ भारत में सबसे पुराना और ग्रेट ब्रिटेन के बाहर पहला गोल्फ क्लब है।

- Ans
- 1. द रॉयल कलकत्ता गोल्फ क्लब
 - 2. द बैंगलोर गोल्फ क्लब
 - 3. ईस्ट पॉइंट गोल्फ क्लब
 - 4. कॉस्मोपॉलिटन क्लब

Question ID : 26433089936

Status : Answered

Chosen Option : 1

Q.19 भारतीय संविधान का कौन सा अनुच्छेद मूल कर्तव्यों से संबंधित है?

- Ans
- 1. 51A
 - 2. 50
 - 3. 52
 - 4. 53A

Question ID : 264330115623

Status : Answered

Chosen Option : 1

Q.20 Which of the following city was the capital of the Pandyas?

- Ans
- 1. Madurai
 - 2. Palamedu
 - 3. Kallupatti
 - 4. Kariapatti

Question ID : 26433085217

Status : Answered

Chosen Option : 1

Q.1 एक व्यक्ति को एक भूखंड को ₹5,45,000 में बेचने पर 8% की हानि होती है। 12% का लाभ अर्जित करने के लिए उसे इसे किस मूल्य पर बेचना चाहिए?

- Ans
- ✓ 1. ₹6,63,478.25
 - ✗ 2. ₹6,66,667.25
 - ✗ 3. ₹6,60,012.30
 - ✗ 4. ₹5,62,391.30

Question ID : 26433076268

Status : Not Answered

Chosen Option : --

Q.2 एक ठोस धात्विक अर्धगोले को पिघलाया जाता है और उसी अर्धगोले के समान आधार त्रिज्या (r) वाले एक शंकु के आकार में पुनः ढाला जाता है। यदि h शंकु की ऊंचाई है, तो r और h का अनुपात क्या होगा?

- Ans
- ✓ 1. 1 : 2
 - ✗ 2. $1 : \sqrt{3}$
 - ✗ 3. $\sqrt{3} : 1$
 - ✗ 4. 2 : 1

Question ID : 26433087411

Status : Answered

Chosen Option : 1

Q.3 एक पुस्तक का अंकित मूल्य ₹600 है। अंकित मूल्य पर 20% की छूट देने के बाद, दुकानदार को ₹48 का लाभ होता है। लाभ प्रतिशत ज्ञात कीजिए।

- Ans
- ✗ 1. 5.5%
 - ✗ 2. 33.33%
 - ✗ 3. 11.22%
 - ✓ 4. 11.11%

Question ID : 26433092145

Status : Answered

Chosen Option : 4

Q.4 यदि एक वस्तु का क्रय मूल्य और विक्रय मूल्य क्रमशः Rs.1,850 और Rs.1,480 है, तो हानि प्रतिशत क्या होगा?

- Ans
- ✓ 1. 20%
 - ✗ 2. 25%
 - ✗ 3. 18%
 - ✗ 4. 15%

Question ID : 26433075653

Status : Answered

Chosen Option : 1

Q.5 A sum of Rs.6,000 was deposited for 3 years at 5% per annum, interest compounded annually. Find the interest for the third year.

- Ans
- 1. Rs.360.25
 - 2. Rs.330.75
 - 3. Rs.325.25
 - 4. Rs.365.75

Question ID : 26433082402
Status : Answered
Chosen Option : 2

Q.6 उस शंकु का आयतन ज्ञात कीजिए, जिसकी त्रिज्या 10 cm है और तिर्यक ऊँचाई 26 cm है। ($\pi = 3.14$ मानिए)

- Ans
- 1. 2564 cm³
 - 2. 2512 cm³
 - 3. 2498 cm³
 - 4. 2432 cm³

Question ID : 26433085773
Status : Answered
Chosen Option : 2

Q.7 X और Y के तीसरे समानुपाती तथा X, Y और Z के चौथे समानुपाती का अनुपात 7 : 22 है, तो Z : Y का अनुपात _____ है।

- Ans
- 1. 22 : 7
 - 2. 49 : 484
 - 3. 1 : 5
 - 4. 7 : 22

Question ID : 26433081474
Status : Not Attempted and Marked For Review
Chosen Option : --

Q.8 एक चोर को एक पुलिसकर्मी 100 m की दूरी से देखता है। पुलिसकर्मी ने जब पीछा करना शुरू किया, तब चोर भी भागने लगा। यदि चोर की चाल 8 km/h है और पुलिसकर्मी की चाल 10 km/h है, तो चोर के पकड़े जाने से पहले वह कितनी दूर दौड़ चुका होगा?

- Ans
- 1. 400 m
 - 2. 300 m
 - 3. 250 m
 - 4. 350 m

Question ID : 26433075161
Status : Answered
Chosen Option : 1

Q.9 एक कुर्सी का स्टोर मूल्य Rs.2,000 है। स्टोर द्वारा दी जाने वाली क्रमिक छूट 10% और 15% है। कुर्सी के लिए कुल छूट प्रतिशत की गणना कीजिए।

- Ans
- 1. 15.30%
 - 2. 23.50%
 - 3. 12.50%
 - 4. 10.25%

Question ID : 26433075234

Status : Answered

Chosen Option : 2

Q.10 मोही और सुनीति अलग-अलग कार्य करते हुए किसी कार्य को क्रमशः 12 और 15 दिनों में पूरा कर सकती हैं। मोही कार्य प्रारंभ करती है और वे क्रम से एकांतरित दिनों में कार्य करती हैं। कार्य कितने दिनों में पूरा होगा?

- Ans
- 1. $16\frac{1}{4}$ दिन
 - 2. $14\frac{1}{4}$ दिन
 - 3. $13\frac{1}{4}$ दिन
 - 4. $12\frac{1}{4}$ दिन

Question ID : 26433080199

Status : Answered

Chosen Option : 3

Q.11 एक प्रयोगशाला में तैयार किए गए एक कल्चर में बैक्टीरिया की आबादी 8×10^8 है। उनकी जन्म और मृत्यु दर प्रति घंटे क्रमशः 12.75% और 10.75% है। 3 घंटे के बाद कल्चर में उनकी आबादी ज्ञात कीजिए।

- Ans
- 1. 8,48,96,460
 - 2. 84,89,44,600
 - 3. 8,48,96,640
 - 4. 84,89,66,400

Question ID : 26433075919

Status : Answered

Chosen Option : 3

Q.12 एक कक्षा में 18 छात्रों के समूह में 45 kg वजन वाले एक छात्र के स्थान पर एक नए छात्र के शामिल होने पर उनका औसत वजन 3.5 kg बढ़ जाता है। नए छात्र का वजन (kg में) कितना है?

- Ans
- 1. 723
 - 2. 582
 - 3. 108
 - 4. 507

Question ID : 26433079997

Status : Answered

Chosen Option : 3

Q.13 A, B और C एक कार्य को क्रमशः 10, 15 और 30 दिनों में समाप्त कर सकते हैं। तो A कितने दिनों में काम पूरा कर सकता है, यदि प्रत्येक तीसरे दिन B और C दोनों उसकी सहायता करते हैं?

- Ans
- 1. $9\frac{1}{3}$
 - 2. 10
 - 3. $9\frac{1}{2}$
 - 4. 8

Question ID : 26433090265

Status : Answered

Chosen Option : 4

Q.14 X, Y और Z की वर्तमान आयु का योग 165 वर्ष है। पाँच वर्ष पहले, उनकी आयु का अनुपात 3 : 5 : 7 था। X और Z की वर्तमान औसत आयु क्या है?

- Ans
- 1. 70 वर्ष
 - 2. 75 वर्ष
 - 3. 45 वर्ष
 - 4. 55 वर्ष

Question ID : 26433075433

Status : Answered

Chosen Option : 4

Q.15 दो संख्याओं का अनुपात 3 : 5 है। यदि इन संख्याओं का लघुत्तम समापवर्त्य (LCM) 240 है, तो दो संख्याएँ क्या हैं?

- Ans
- 1. 48 और 88
 - 2. 36 और 94
 - 3. 48 और 80
 - 4. 42 और 88

Question ID : 26433075665

Status : Answered

Chosen Option : 3

Q.16 अनाज के किसी भंडार में से, $\frac{1}{8}$ हिस्सा सड़ा हुआ है। उस भंडार (stock) में अनाज का कितना प्रतिशत सड़ा हुआ नहीं है?

- Ans
- 1. 87.5%
 - 2. 75%
 - 3. 77.5%
 - 4. 90%

Question ID : 26433071250

Status : Answered

Chosen Option : 1

Q.17 एक संख्या $2X16$ को 4 और 9 से विभाज्य सबसे छोटी संख्या से विभाजित किया जाता है। परिणामी संख्या 9 का वर्ग है। X का मान ज्ञात करें।

- Ans
- 1.5
 - 2.3
 - 3.7
 - 4.9

Question ID : 264330116638
Status : Answered
Chosen Option : 4

Q.18 एक कार को 59 km/h की चाल से 354 km की दूरी तय करने में कितने घंटे लगेंगे?

- Ans
- 1.4
 - 2.6
 - 3.5
 - 4.7

Question ID : 26433075077
Status : Answered
Chosen Option : 2

Q.19 $\frac{3}{4}$, $\frac{7}{8}$ और $\frac{9}{20}$ का महत्तम समापवर्तक (HCF) क्या है?

- Ans
- 1. $\frac{1}{20}$
 - 2. $\frac{1}{50}$
 - 3. $\frac{1}{30}$
 - 4. $\frac{1}{40}$

Question ID : 26433079820
Status : Answered
Chosen Option : 4

Q.20 किसी भिन्न के अंश को 25% कम कर दिया जाता है और हर में 25% बढ़ा दिया जाता है। नया भिन्न मूल भिन्न से कितना प्रतिशत कम है?

- Ans 1. 50%
2. 40%
3. 45%
4. 25%

Question ID : 26433091903
Status : Answered
Chosen Option : 2

Section : Part-D-English

Q.1 Select the INCORRECTLY spelt word.

- Ans 1. Consonant
2. Similar
3. Treasure
4. Vaccenation

Question ID : 26433073726
Status : Not Answered
Chosen Option : --

Q.2 Select the most appropriate option to fill in the blank.

_____ is the scientific study of material remains like relics and monuments of past human life.

- Ans 1. Geology
2. Theology
3. Biology
4. Archaeology

Question ID : 26433084654
Status : Not Answered
Chosen Option : --

Q.3 Select the most appropriate ANTONYM of the underlined word to fill in the blank.

Only one of his proposals was accepted in the meeting, while others were _____.

- Ans 1. agreed
2. rejected
3. fulfilled
4. attended

Question ID : 26433089065
Status : Not Answered
Chosen Option : --

Q.4 Select the most appropriate synonym of the given word.

Baffle

- Ans 1. Amaze
 2. Enlighten
 3. Clear
 4. Comprehend

Question ID : 26433072071
Status : Not Answered
Chosen Option : --

Q.5 Select the most appropriate ANTONYM of the given word.
Gratification

- Ans 1. Growth
 2. Pleasure
 3. Dissatisfaction
 4. Blessing

Question ID : 26433092953
Status : Not Answered
Chosen Option : --

Q.6 Select the correct spelling of the underlined word from the given options to make the sentence meaningfully correct.

I am very confidant of my positive result in the examination.

- Ans 1. confident
 2. confidence
 3. confidance
 4. confiedent

Question ID : 26433074063
Status : Not Answered
Chosen Option : --

Q.7 Select the most appropriate option that can substitute the underlined segment in the given sentence.

Shubhda has not finished to paint the window.

- Ans 1. painting with
 2. painting on
 3. painting
 4. painting of

Question ID : 264330102391
Status : Not Answered
Chosen Option : --

Q.8 Select the correct idiom that can substitute the italicised group of words in the given sentence.

My mother ensures every corner of our home is *clean and organised* before my grandmother arrives.

- Ans
- 1. spick and span
 - 2. root and branch
 - 3. a queer fish
 - 4. a rainy day

Question ID : 26433084761
Status : Not Answered
Chosen Option : --

Q.9 Select the most appropriate synonym of the underlined word in the following sentence.

They put in their sincere efforts and were lauded for their endeavours.

- Ans
- 1. drop
 - 2. efforts
 - 3. passivity
 - 4. fun

Question ID : 26433072355
Status : Not Answered
Chosen Option : --

Q.10 Select the most appropriate option that can substitute the underlined segment in the given sentence. If there is no need to substitute it, select 'No substitution'.

The travelling gypsies wanted to display they're skilful antics to the crowd.

- Ans
- 1. their skilful antics
 - 2. there skilful antics
 - 3. No substitution
 - 4. dare skilful antics

Question ID : 26433088740
Status : Not Answered
Chosen Option : --

Q.11 Select the most appropriate synonym of the given word.

Introvert

- Ans
- 1. Bold
 - 2. Shy
 - 3. Forward
 - 4. Outgoing

Question ID : 26433073687
Status : Not Answered
Chosen Option : --

Q.12 Select the most appropriate meaning of the given idiom.

On the fence

- Ans
- 1. Under all conditions
 - 2. Undaunted by anything
 - 3. Halting between two options
 - 4. On very intimate terms

Question ID : 26433073876
Status : Not Answered
Chosen Option : --

Q.13 Select the most appropriate ANTONYM of the given word.

Divulgence

- Ans
- 1. Repudiation
 - 2. Confirmation
 - 3. Revelation
 - 4. Assertion

Question ID : 26433072664
Status : Not Answered
Chosen Option : --

Q.14 Select the correct pair of homonyms to fill in the blanks.

What she _____ is that he is a _____ person.

- Ans
- 1. meant, mean
 - 2. mean, meant
 - 3. growing, grown
 - 4. grown, groaned

Question ID : 26433072109
Status : Not Answered
Chosen Option : --

Q.15 The following sentence has been split into four segments. Identify the segment that contains a grammatical error.

My sister / is come for / a short holiday / from the US.

- Ans
- 1. My sister
 - 2. from the US
 - 3. a short holiday
 - 4. is come for

Question ID : 26433099634
Status : Not Answered
Chosen Option : --

Comprehension:

In the following passage some words have been deleted. Read the passage carefully and select the most appropriate option to fill in each blank.

The necessity of urban forest is not only to control pollution but also to (1) _____ climate change. It (2) _____ tempests as well as unforeseen drought. Off late the world is (3) _____ flash floods. The (4) _____ in Africa has put many countries in famine and children undergo severe malnutrition as a result of famine. Conferences will not provide solutions, only (5) _____ action can control these changes in global climate.

SubQuestion No : 16

Q.16 Select the most appropriate option to fill in blank number 1.

- Ans 1. devise
 2. control
 3. create
 4. hasten

Question ID : 26433072749

Status : Not Answered

Chosen Option : --

Comprehension:

In the following passage some words have been deleted. Read the passage carefully and select the most appropriate option to fill in each blank.

The necessity of urban forest is not only to control pollution but also to (1) _____ climate change. It (2) _____ tempests as well as unforeseen drought. Off late the world is (3) _____ flash floods. The (4) _____ in Africa has put many countries in famine and children undergo severe malnutrition as a result of famine. Conferences will not provide solutions, only (5) _____ action can control these changes in global climate.

SubQuestion No : 17

Q.17 Select the most appropriate option to fill in blank number 2.

- Ans 1. prevents
 2. contributes
 3. confirms
 4. collides

Question ID : 26433072750

Status : Not Answered

Chosen Option : --

Comprehension:

In the following passage some words have been deleted. Read the passage carefully and select the most appropriate option to fill in each blank.

The necessity of urban forest is not only to control pollution but also to (1) _____ climate change. It (2) _____ tempests as well as unforeseen drought. Off late the world is (3) _____ flash floods. The (4) _____ in Africa has put many countries in famine and children undergo severe malnutrition as a result of famine. Conferences will not provide solutions, only (5) _____ action can control these changes in global climate.

SubQuestion No : 18

Q.18 Select the most appropriate option to fill in blank number 3.

- Ans 1. seeing
 2. experiencing
 3. holding
 4. chasing

Question ID : 26433072751

Status : Not Answered

Chosen Option : --

Comprehension:

In the following passage some words have been deleted. Read the passage carefully and select the most appropriate option to fill in each blank.

The necessity of urban forest is not only to control pollution but also to (1) _____ climate change. It (2) _____ tempests as well as unforeseen drought. Off late the world is (3) _____ flash floods. The (4) _____ in Africa has put many countries in famine and children undergo severe malnutrition as a result of famine. Conferences will not provide solutions, only (5) _____ action can control these changes in global climate.

SubQuestion No : 19

Q.19 Select the most appropriate option to fill in blank number 4.

- Ans 1. temperature
 2. heat
 3. fire
 4. drought

Question ID : 26433072752

Status : Not Answered

Chosen Option : --

Comprehension:

In the following passage some words have been deleted. Read the passage carefully and select the most appropriate option to fill in each blank.

The necessity of urban forest is not only to control pollution but also to (1) _____ climate change. It (2) _____ tempests as well as unforeseen drought. Off late the world is (3) _____ flash floods. The (4) _____ in Africa has put many countries in famine and children undergo severe malnutrition as a result of famine. Conferences will not provide solutions, only (5) _____ action can control these changes in global climate.

SubQuestion No : 20

Q.20 Select the most appropriate option to fill in blank number 5.

- Ans
- 1. random
 - 2. one-time
 - 3. consistent
 - 4. rare

Question ID : 26433072753

Status : Not Answered

Chosen Option : --

Section : Part-D-Hindi

Q.1 नेहा की आँखों से आँसू टपक पड़ा।
उपरोक्त वाक्य के किस भाग में अशुद्धि है?

- Ans
- 1. आँखों से
 - 2. नेहा की
 - 3. टपक पड़ा।
 - 4. आँसू

Question ID : 26433079761

Status : Answered

Chosen Option : 3

Q.2 कर्म करो, फल की चेष्टा मत करो।
इस वाक्य में 'चेष्टा' के बदले कौन - सा पद उचित होगा ?

- Ans
- 1. प्रयास
 - 2. प्राप्त
 - 3. हासिल
 - 4. आशा

Question ID : 26433062696

Status : Answered

Chosen Option : 4

Q.3 निम्नलिखित विकल्पों में से कौन सा एक वाक्य क्रिया-विशेषण से सम्बन्ध रखता है?

- Ans
- 1. शेर जंगल में रहता है।
 - 2. महिमा सो रही है।
 - 3. रमण रो रहा है।
 - 4. रमेश अच्छा खेल रहा है।

Question ID : 26433062950

Status : Answered

Chosen Option : 4

Q.4 ' _____ का जोर लगाना' इस मुहावरे को पूरा करें।

- Ans
- 1. आमने सामने
 - 2. जोर
 - 3. एड़ी चोटी
 - 4. पहाड़ चोटी

Question ID : 26433066819

Status : Answered

Chosen Option : 3

Q.5 निम्नलिखित में से किस वाक्य में प्रेरणार्थक क्रिया है?

- Ans
- 1. धर्मेंद्र पढ़कर सो गया।
 - 2. सीता राधा से पत्र पढ़वाती है।
 - 3. सोहन ने खाना बना लिया।
 - 4. मुझे पढ़ने दो।

Question ID : 26433085043

Status : Answered

Chosen Option : 2

Q.6 नीचे दिए वाक्यांश के लिए उचित शब्द दिए गए विकल्पों में से चुनिए-
जिसका ज्ञान इंद्रियों द्वारा न हो

- Ans
- 1. अगोचर
 - 2. अज्ञात
 - 3. अचिंत्य
 - 4. अग्रशोची

Question ID : 26433062386

Status : Answered

Chosen Option : 1

Q.7 'सागर की तरह बड़ा होने का कोई महत्त्व नहीं अगर किसी की प्यास न बुझा सके।' वाक्य में प्रयुक्त 'सागर' शब्द का पर्यायवाची शब्द नहीं है -

- Ans
- 1. उदधि
 - 2. वारिधि
 - 3. जगधि
 - 4. जलधि

Question ID : 26433069741

Status : Answered

Chosen Option : 3

Q.8 पुंडरीक और चंपा के पुष्प बहुत सुंदर होते हैं।
उपरोक्त वाक्य में प्रयुक्त 'पुंडरीक' शब्द का पर्यायवाची क्या है?

- Ans
- 1. बेला
 - 2. कमल
 - 3. जुही
 - 4. गुलाब

Question ID : 26433080853

Status : Not Answered

Chosen Option : --

Q.9 निम्न वाक्य में रेखांकित अंश के स्थान पर सबसे उपयुक्त विकल्प कौन-सा होगा?
मकान गिर जाने का संदेह है।

- Ans
- 1. संदेश
 - 2. इच्छा
 - 3. डर
 - 4. उम्मीद

Question ID : 26433072583

Status : Answered

Chosen Option : 3

Q.10 'रमेश के घर के पास एक _____ है, जिसमें से वह पानी भरता है।' इस वाक्य में रिक्त स्थान की पूर्ति
शुद्ध शब्द द्वारा कीजिए।

- Ans
- 1. कुंआ
 - 2. कुआँ
 - 3. कुवा
 - 4. कुआ

Question ID : 26433080905

Status : Answered

Chosen Option : 2

Q.11 'स्वागत _____ है।' उपर्युक्त वाक्य में रिक्त स्थान के लिए उपयुक्त विकल्प निम्न में से क्या होगा?

- Ans
- 1. से अभिप्राय रूठकर जाने के लिए किया जाने वाला अभिवादन
 - 2. से अभिप्राय आगमन के लिए किया जाने वाला अभिवादन
 - 3. से अभिप्राय जाने के लिए किया जाने वाला अभिवादन
 - 4. से अभिप्राय मनाने के लिए किया जाने वाला अभिवादन

Question ID : 26433067048
Status : Answered
Chosen Option : 2

Q.12 निम्नलिखित विकल्पों में से 'खेत की मूली' मुहावरे का अर्थ क्या है?

- Ans
- 1. नगण्य व्यक्ति
 - 2. महामानवतावादी होना
 - 3. गणमान्य व्यक्ति
 - 4. शक्तिशाली व्यक्ति

Question ID : 26433062551
Status : Marked For Review
Chosen Option : 1

Q.13 निम्न वाक्यांश के एक शब्द क्या होगा?
विष्णु का उपासक

- Ans
- 1. बांधव
 - 2. वैष्णव
 - 3. सौष्ठव
 - 4. शैव

Question ID : 26433070091
Status : Marked For Review
Chosen Option : 2

Q.14 अमंगल सूचक भय 'शक' कहलाता है। इसके एकार्थी शब्द से निम्न वाक्य पूर्ण कीजिए।
माँ को _____ है कि शायद बेटा घर वापस न आए।

- Ans
- 1. भावना
 - 2. संदेशा
 - 3. आशंका
 - 4. भर्त्सना

Question ID : 26433063083
Status : Answered
Chosen Option : 3

Q.15 निम्नलिखित में से क्या 'शादी' का समानार्थी शब्द नहीं है?

- Ans
- 1. पाणिग्रहण
 - 2. परिणय
 - 3. विवाह
 - 4. ग्रहण

Question ID : 26433085080

Status : Not Attempted and Marked For Review

Chosen Option : --

Comprehension:

निम्नलिखित गद्यांश में कुछ शब्दों को हटा दिया गया है। दिए गए विकल्पों की सहायता से रिक्त स्थानों की पूर्ति कीजिए। प्रत्येक संख्या के लिए सबसे उपयुक्त विकल्प का चयन कीजिए।
यात्रा जीवन की 1. _____ है और रुकना एक पड़ाव। परिवारजनों अथवा मित्रों के साथ यात्रा करने का 2. _____ ही निराला है। परीक्षा समाप्त होने के 3. _____ हम चार मित्रों ने किसी पर्वतीय प्रदेश की यात्रा का निर्णय लिया। पर्वतीय प्रदेश की यात्रा के लिए गर्म कपड़ों की 4. _____ थी। परिजनों ने 5. _____ दी और समुचित धन भी दिया।

SubQuestion No : 16

Q.16 रिक्त स्थान 1 की पूर्ति के लिए सबसे उपयुक्त विकल्प का चयन कीजिए।

- Ans
- 1. नगरी
 - 2. पश्चाताप
 - 3. मार्ग
 - 4. गति

Question ID : 264330111023

Status : Answered

Chosen Option : 1

Comprehension:

निम्नलिखित गद्यांश में कुछ शब्दों को हटा दिया गया है। दिए गए विकल्पों की सहायता से रिक्त स्थानों की पूर्ति कीजिए। प्रत्येक संख्या के लिए सबसे उपयुक्त विकल्प का चयन कीजिए।
यात्रा जीवन की 1. _____ है और रुकना एक पड़ाव। परिवारजनों अथवा मित्रों के साथ यात्रा करने का 2. _____ ही निराला है। परीक्षा समाप्त होने के 3. _____ हम चार मित्रों ने किसी पर्वतीय प्रदेश की यात्रा का निर्णय लिया। पर्वतीय प्रदेश की यात्रा के लिए गर्म कपड़ों की 4. _____ थी। परिजनों ने 5. _____ दी और समुचित धन भी दिया।

SubQuestion No : 17

Q.17 रिक्त स्थान 2 की पूर्ति के लिए सबसे उपयुक्त विकल्प का चयन कीजिए।

- Ans
- 1. हाल
 - 2. साथ
 - 3. आनंद
 - 4. स्वभाव

Question ID : 264330111024

Status : Answered

Chosen Option : 3

Comprehension:

निम्नलिखित गद्यांश में कुछ शब्दों को हटा दिया गया है। दिए गए विकल्पों की सहायता से रिक्त स्थानों की पूर्ति कीजिए। प्रत्येक संख्या के लिए सबसे उपयुक्त विकल्प का चयन कीजिए।
यात्रा जीवन की 1. _____ है और रुकना एक पड़ाव। परिवारजनों अथवा मित्रों के साथ यात्रा करने का 2. _____ ही निराला है। परीक्षा समाप्त होने के 3. _____ हम चार मित्रों ने किसी पर्वतीय प्रदेश की यात्रा का निर्णय लिया। पर्वतीय प्रदेश की यात्रा के लिए गर्म कपड़ों की 4. _____ थी। परिजनों ने 5. _____ दी और समुचित धन भी दिया।

SubQuestion No : 18

Q.18 रिक्त स्थान 3 की पूर्ति के लिए सबसे उपयुक्त विकल्प का चयन कीजिए।

- Ans
- 1. किन्तु
 - 2. पश्चात
 - 3. बीच
 - 4. स्थान

Question ID : 264330111025

Status : Answered

Chosen Option : 2

Comprehension:

निम्नलिखित गद्यांश में कुछ शब्दों को हटा दिया गया है। दिए गए विकल्पों की सहायता से रिक्त स्थानों की पूर्ति कीजिए। प्रत्येक संख्या के लिए सबसे उपयुक्त विकल्प का चयन कीजिए।
यात्रा जीवन की 1. _____ है और रुकना एक पड़ाव। परिवारजनों अथवा मित्रों के साथ यात्रा करने का 2. _____ ही निराला है। परीक्षा समाप्त होने के 3. _____ हम चार मित्रों ने किसी पर्वतीय प्रदेश की यात्रा का निर्णय लिया। पर्वतीय प्रदेश की यात्रा के लिए गर्म कपड़ों की 4. _____ थी। परिजनों ने 5. _____ दी और समुचित धन भी दिया।

SubQuestion No : 19

Q.19 रिक्त स्थान 4 की पूर्ति के लिए सबसे उपयुक्त विकल्प का चयन कीजिए।

- Ans
- 1. मिलावट
 - 2. निराशा
 - 3. आवश्यकता
 - 4. देख-रेख

Question ID : 264330111026

Status : Answered

Chosen Option : 3

Comprehension:

निम्नलिखित गद्यांश में कुछ शब्दों को हटा दिया गया है। दिए गए विकल्पों की सहायता से रिक्त स्थानों की पूर्ति कीजिए। प्रत्येक संख्या के लिए सबसे उपयुक्त विकल्प का चयन कीजिए।
यात्रा जीवन की 1. _____ है और रुकना एक पड़ाव। परिवारजनों अथवा मित्रों के साथ यात्रा करने का 2. _____ ही निराला है। परीक्षा समाप्त होने के 3. _____ हम चार मित्रों ने किसी पर्वतीय प्रदेश की यात्रा का निर्णय लिया। पर्वतीय प्रदेश की यात्रा के लिए गर्म कपड़ों की 4. _____ थी। परिजनों ने 5. _____ दी और समुचित धन भी दिया।

SubQuestion No : 20

Q.20 रिक्त स्थान 5 की पूर्ति के लिए सबसे उपयुक्त विकल्प का चयन कीजिए।

- Ans 1. अनुमति
 2. उत्साहित
 3. काम
 4. संतुलन

Question ID : 264330111027

Status : Answered

Chosen Option : 1

KD Job Updates

Constable GD in CAPFs SSF Rifleman GD in Assam Rifles and Sepoy in NCB Examination 2022

Roll Number	KD Job Updates
Candidate Name	KD Job Updates
Venue Name	iON Digital Zone iDZ Kishanpur
Exam Date	13/02/2023
Exam Time	11:45 AM - 12:45 PM
Subject	Constable GD Examination 2022

Section : Part-A-General Intelligence and Reasoning

Q.1 दिए गए समीकरण को संतुलित करने के लिए विकल्पों में दिए गए किन दो चिह्नों को परस्पर बदलना होगा?

$$(9 \div 3 + 169 \times 13) \div 5 - 10 + 16 = 206$$

- Ans
- 1. + और -
 - 2. × और -
 - 3. ÷ और ×
 - 4. + और ×

Question ID : 26433082481

Status : Answered

Chosen Option : 4

Q.2 एक निश्चित कूट भाषा में, GUIDE को 'KWMFI' लिखा जाता है, और SLICE को 'WNMEI' लिखा जाता है। उसी कूट भाषा में 'FAITH' को किस प्रकार लिखा जाएगा?

- Ans
- 1. JDNVL
 - 2. JDNWL
 - 3. JCNVL
 - 4. JCMVL

Question ID : 26433067988

Status : Answered

Chosen Option : 4

Q.3 उस समुच्चय का चयन करें, जिसमें संख्याएँ उसी प्रकार संबंधित हैं, जिस प्रकार निम्नलिखित समुच्चयों की संख्याएँ हैं।

(नोट: संख्याओं को उसके घटक अंकों में विभाजित किए बिना, पूर्ण संख्याओं पर ही गणितीय संक्रियाएँ की जानी चाहिए। जैसे 13 - मान लीजिए 13 पर गणितीय संक्रियाएँ जैसे कि 13 में जोड़ना/घटाना/गुणा करना आदि किया जा सकता है। 13 को 1 और 3 में तोड़कर और फिर 1 और 3 पर गणितीय संक्रियाएँ करने की अनुमति नहीं है।)

(12, 87, 17)

(19, 117, 20)

- Ans
- 1. (13, 75, 12)
 - 2. (11, 121, 22)
 - 3. (8, 96, 14)
 - 4. (15, 69, 9)

Question ID : 26433076480

Status : Not Answered

Chosen Option : --

Q.4 छः विद्यार्थी P, Q, R, S, T और U एक वृत्ताकार मेज के परितः मेज के केंद्र की ओर मुख करके बैठे हैं। P, Q के दाईं ओर दूसरे स्थान पर बैठा है। S, Q और R दोनों के ठीक बगल में बैठा है। U, R के बाईं ओर तीसरे स्थान पर बैठा है। T, P और R दोनों के ठीक बगल में बैठा है। इनमें से कौन P और Q के ठीक बगल में बैठा है?

- Ans
- 1. T
 - 2. U
 - 3. R
 - 4. S

Question ID : 26433068865
Status : Answered
Chosen Option : 2

Q.5 उस विकल्प का चयन कीजिए जो तीसरे शब्द से उसी प्रकार संबंधित है जिस प्रकार दूसरा शब्द पहले शब्द से संबंधित है। (शब्दों को अर्थपूर्ण शब्दों के रूप में मानना है और उन्हें शब्द में अक्षरों/व्यंजनों/स्वरों की संख्या के आधार पर एक-दूसरे से संबंधित नहीं करना है।)
आम : फल :: रूबा : ?

- Ans
- 1. नृत्य
 - 2. समुद्र
 - 3. भोजन
 - 4. लंबा

Question ID : 26433079483
Status : Answered
Chosen Option : 1

Q.6 उस विकल्प का चयन कीजिए जो पांचवें अक्षर-समूह से उसी प्रकार संबंधित है जिस प्रकार दूसरा अक्षर-समूह पहले अक्षर-समूह से संबंधित है और चौथा अक्षर-समूह तीसरे अक्षर-समूह से संबंधित है।
NEAR : PVZP :: GONE : ILMC :: TAXI : ?

- Ans
- 1. GZCR
 - 2. RCZK
 - 3. VZCM
 - 4. VZCG

Question ID : 26433057484
Status : Answered
Chosen Option : 4

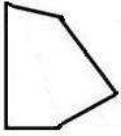
Q.7 एक निश्चित कूट भाषा में 'RESULT' को 'LUTERS' के रूप में और 'BARLEY' को 'ELYABR' के रूप में लिखा जाता है। इसी कूट भाषा में 'HEAVEN' को कैसे लिखा जाएगा?

- Ans
- 1. AEVNHA
 - 2. EANVHE
 - 3. EVNEHA
 - 4. VEENAH

Question ID : 26433079487
Status : Answered
Chosen Option : 3

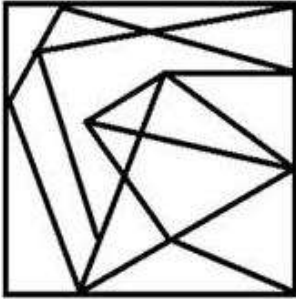
Q.8

उस विकल्प आकृति का चयन करें जिसमें दी गई आकृति अंतर्निहित है (घुमाने की अनुमति नहीं है)।

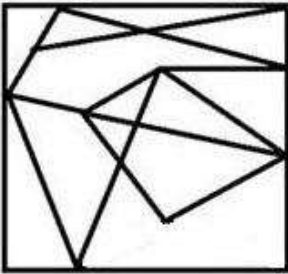


Ans

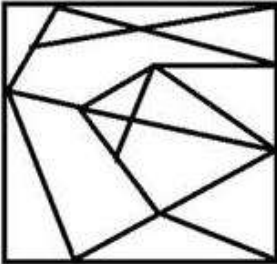
✗ 1.



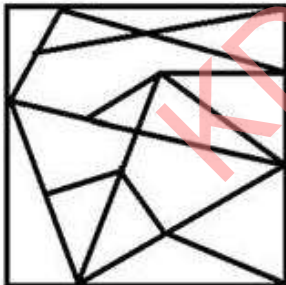
✗ 2.



✓ 3.



✗ 4.



Question ID : 26433069593

Status : Answered

Chosen Option : 3

Q.9 इस प्रश्न में तीन कथन दिए गए हैं, जिसके बाद दो निष्कर्ष I और II दिए गए हैं। कथनों को सत्य मानते हुए, भले ही वे सर्वज्ञात तथ्यों से भिन्न प्रतीत होते हों, निर्णय कीजिए कि कौन-सा/से निष्कर्ष कथनों का तार्किक रूप से अनुसरण करता है/अनुसरण करते हैं।

कथन:

सभी सेब फल हैं।

सभी फल सब्जियां हैं।

कुछ सब्जियां ताजी हैं।

निष्कर्ष:

I. सभी सेब ताजे हैं।

II. कुछ फल ताजे हैं।

Ans 1. न तो निष्कर्ष I और न ही II अनुसरण करता है।

2. निष्कर्ष I और II दोनों अनुसरण करते हैं।

3. केवल निष्कर्ष I अनुसरण करता है।

4. केवल निष्कर्ष II अनुसरण करता है।

Question ID : 26433070386

Status : Answered

Chosen Option : 1

Q.10 निम्न में से कौन सी संख्या दी गई श्रृंखला में प्रश्नचिह्न (?) के स्थान पर आएगी?
198, 194, 185, ?, 144, 108

Ans 1. 182

2. 169

3. 172

4. 175

Question ID : 26433076740

Status : Answered

Chosen Option : 2

Q.11 आठ लड़कियां P, Q, R, S, U, V, T और W एक वृत्ताकार मेज के परितः मेज के केंद्र की ओर मुख करके बैठी हैं। V, Q के बाईं ओर ठीक बगल में, और U के दाईं ओर ठीक बगल में बैठी है। W, V के बाईं ओर तीसरे स्थान पर, और P के दाईं ओर दूसरे स्थान पर बैठी है। R, P और Q के ठीक बगल में बैठी है। T, R के बाईं ओर चौथे स्थान पर बैठी है। U के बाईं ओर तीसरे स्थान पर कौन बैठी है?

Ans 1. V

2. P

3. T

4. S

Question ID : 26433091415

Status : Answered

Chosen Option : 4

Q.12 नीचे दिए गए समीकरण को गणितीय रूप से सही बनाने के लिए किन दो चिन्हों को परस्पर बदलना चाहिए?

$$81 + 3 \div 27 - 8 \times 24 = 25$$

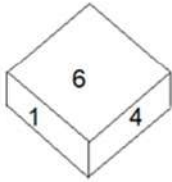
- Ans 1. \times और $+$
 2. $+$ और $-$
 3. \div और $+$
 4. \div और \times

Question ID : 264330117533

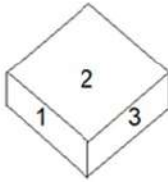
Status : Answered

Chosen Option : 1

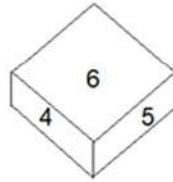
Q.13 एक ही पासे की तीन अलग-अलग स्थितियां दर्शाई गई हैं। '4' दशनि वाले फलक के विपरीत फलक पर संख्या ज्ञात करें।



आकृति 1



आकृति 2



आकृति 3

- Ans 1. 3
 2. 6
 3. 5
 4. 2

Question ID : 26433089455

Status : Answered

Chosen Option : 1

Q.14 निम्नलिखित में से कौन-सा अक्षर-समूह दी गई श्रृंखला में प्रश्न-चिह्न (?) के स्थान पर आएगा?
DHMO, EILN, FJKM, ?, HLIK

- Ans 1. HKJK
 2. GLKL
 3. GLJL
 4. GKJL

Question ID : 26433076437

Status : Answered

Chosen Option : 4

Q.15 किस विकल्प में निम्नलिखित शब्दों का वह क्रम दिया गया है, जिस क्रम में वे अंग्रेजी शब्दकोश में आते हैं?

- 1 danger
- 2 damage
- 3 daring
- 4 darling
- 5 dark

Ans ✓ 1. 2,1,3,5,4

✗ 2. 3,1,2,4,5

✗ 3. 2,3,1,4,5

✗ 4. 2,1,3,4,5

Question ID : 26433069291

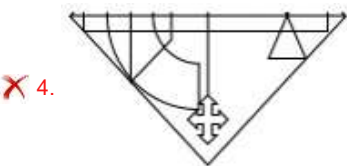
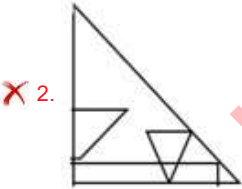
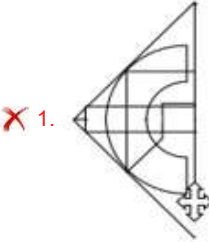
Status : Answered

Chosen Option : 1

Q.16 उस विकल्प आकृति का चयन करें जो दी गई आकृति में निहित है। (आकृति को घुमाने की अनुमति नहीं है)।



Ans



Question ID : 26433089776

Status : Answered

Chosen Option : 3

Q.17 दिए गए विकल्पों में से वह संख्या चुनिए, जो निम्नलिखित शृंखला में प्रश्न-चिह्न

(?) को प्रतिस्थापित कर सके।

$$\frac{1}{248}, \frac{1}{217}, \frac{1}{186}, ? , \frac{1}{124}$$

Ans

✗ 1. $\frac{1}{179}$

✗ 2. $\frac{1}{147}$

✗ 3. $\frac{1}{138}$

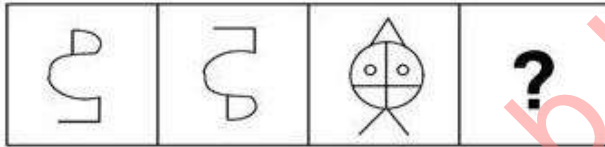
✓ 4. $\frac{1}{155}$

Question ID : 26433074529

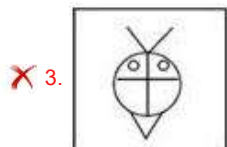
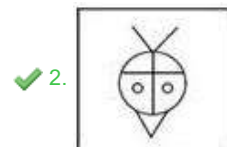
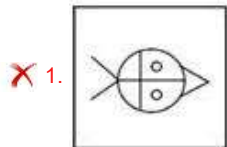
Status : Answered

Chosen Option : 4

Q.18 वह विकल्प ज्ञात कीजिए जो तीसरी आकृति से उसी प्रकार संबंधित है जैसे दूसरी आकृति पहली आकृति से संबंधित है। (पहला आकृति सबसे बाईं ओर की आकृति है।)



Ans



Question ID : 26433078858

Status : Answered

Chosen Option : 2

Q.19 कौन-सा अक्षर-समूह दी गई शृंखला में प्रश्नचिह्न (?) के स्थान पर आकर शृंखला को पूर्ण करेगा?
ZYXV, UTSQ, PONL, KJIG, ?

- Ans
- 1. FDBA
 - 2. FEDC
 - 3. FEDB
 - 4. FDCB

Question ID : 26433067719
Status : Answered
Chosen Option : 3

Q.20 एक परिवार में 7 सदस्य हैं। X और Y एक विवाहित जोड़ा हैं। X, L का पिता है। M, L की पत्नी है। C, L का भाई है। C का एक बेटा O है। P, O की बहन है। C, P से किस प्रकार संबंधित है?

- Ans
- 1. दादा
 - 2. चाचा
 - 3. पिता
 - 4. बेटा

Question ID : 26433074598
Status : Answered
Chosen Option : 3

Section : Part-B-General Knowledge and General awareness

Q.1 एशियाई खेल 2018 के मेजबान कौन थे?

- Ans
- 1. चीन
 - 2. सिंगापुर
 - 3. भारत
 - 4. इंडोनेशिया

Question ID : 264330115917
Status : Answered
Chosen Option : 2

Q.2 प्लासी का युद्ध _____ में लड़ा गया था।

- Ans
- 1. 1755
 - 2. 1757
 - 3. 1760
 - 4. 1764

Question ID : 264330115701
Status : Answered
Chosen Option : 2

Q.3 ज़ियाउद्दीन बरनी ने अपना वृत्तांत का पहला संस्करण _____ वर्ष में लिखा था।

- Ans
- 1. 1288
 - 2. 1358
 - 3. 1402
 - 4. 1356

Question ID : 26433089124
Status : Not Answered
Chosen Option : --

Q.4 नारियल के रेशेयुक्त छिलके _____ उत्तक के बने होते हैं।

- Ans
- 1. ज़ाइलम
 - 2. पैरेन्काइमा
 - 3. स्क्लेरेन्काइमा
 - 4. कॉलेन्काइमा

Question ID : 264330115203
Status : Not Answered
Chosen Option : --

Q.5 'पाइका' _____ में किया जाने वाला एक लोक नृत्य है।

- Ans
- 1. झारखंड
 - 2. हरियाणा
 - 3. महाराष्ट्र
 - 4. तमिलनाडु

Question ID : 26433071664
Status : Answered
Chosen Option : 1

Q.6 राम नवमी का त्यौहार हिंदू माह _____ में मनाया जाता है।

- Ans
- 1. चैत्र
 - 2. फाल्गुन
 - 3. कार्तिक
 - 4. अश्विन

Question ID : 264330115098
Status : Answered
Chosen Option : 2

Q.7 भारतीय संविधान का निम्नलिखित में से कौन सा अनुच्छेद भारत के महान्यायवादी से संबंधित है?

- Ans
- 1. अनुच्छेद 76
 - 2. अनुच्छेद 243ZE
 - 3. अनुच्छेद 279A
 - 4. अनुच्छेद 243I

Question ID : 26433089912
Status : Answered
Chosen Option : 1

Q.8 धनंजय यशवंत चन्द्रचूड़ को अक्टूबर 2022 में भारत के ____ मुख्य न्यायाधीश के रूप में नियुक्त किया गया है।

- Ans
- 1. 40वें
 - 2. 20वें
 - 3. 30वें
 - 4. 50वें

Question ID : 264330114922
Status : Answered
Chosen Option : 4

Q.9 भूकंप के दौरान कंपन को मापने के लिए किस यंत्र का उपयोग किया जाता है?

- Ans
- 1. रिक्टर मापक्रम
 - 2. मरकैली मापक्रम
 - 3. सिस्मोग्राफ
 - 4. हाइग्रोमीटर

Question ID : 264330116003
Status : Answered
Chosen Option : 3

Q.10 निम्नलिखित प्रकार के उद्योगों को उनके उदाहरणों से मिलान करें।

- a) कृषि आधारित उद्योग i) होटल और रेस्टोरेंट
- b) सार्वजनिक क्षेत्र उद्योग ii) लोहा और इस्पात उद्योग
- c) निजी क्षेत्र उद्योग iii) रेशम टेक्सटाइल
- d) खनिज आधारित उद्योग iv) BHEL और SAIL

- Ans
- 1. a-iii, b-iv, c-i, d-ii
 - 2. a-iv, b-iii, c-ii, d-i
 - 3. a-iv, b-ii, c-i, d-iii
 - 4. a-i, b-ii, c-iii, d-iv

Question ID : 264330115567
Status : Not Answered
Chosen Option : --

Q.11 भारत की जनगणना 2011 का आदर्श-वाक्य (slogan) क्या था?

- Ans
- 1. हमारी जनगणना - हमारा भविष्य
 - 2. हमारी जनगणना - हमारा गौरव
 - 3. भारत की जनगणना - भारत का गौरव
 - 4. हमारी जनगणना - सुरक्षित भविष्य

Question ID : 264330116029
Status : Answered
Chosen Option : 1

Q.12 2022 तक प्राप्त जानकारी के अनुसार, भारत ने अपना आखिरी ODI क्रिकेट विश्व कप किस वर्ष जीता था?

- Ans
- 1. 2003
 - 2. 1983
 - 3. 2011
 - 4. 2007

Question ID : 264330116248
Status : Not Answered
Chosen Option : --

Q.13 पद्म श्री से सम्मानित होने वाले पहले ट्रांसजेंडर का नाम क्या था?

- Ans
- 1. शांति देवी
 - 2. राम मूर्ति
 - 3. नर्तकी नटराज
 - 4. कार्तिक चंद्र रथ

Question ID : 264330115820
Status : Not Answered
Chosen Option : --

Q.14 वह रासायनिक अभिक्रिया जिसमें _____ का जोड़ या _____ का निष्कासन हो, अपचयन कहा जाता है।

- Ans
- 1. कार्बन डाइऑक्साइड, हाइड्रोजन
 - 2. ऑक्सीजन, हाइड्रोजन
 - 3. कार्बन डाइऑक्साइड, ऑक्सीजन
 - 4. हाइड्रोजन, ऑक्सीजन

Question ID : 264330115157
Status : Not Answered
Chosen Option : --

Q.15 _____ (ABDM) का उद्देश्य देश के एकीकृत डिजिटल स्वास्थ्य अवसंरचना का समर्थन करने हेतु आवश्यक आधार विकसित करना है।

- Ans
- 1. आयुष्मान भारत डिजिटल मैप
 - 2. आयुष्मान भारत डिजिटल मेनेजमेंट
 - 3. अजय भारत डिजिटल मिशन
 - 4. आयुष्मान भारत डिजिटल मिशन

Question ID : 264330116166
Status : Not Answered
Chosen Option : --

Q.16 चौथी पंचवर्षीय योजना वर्ष _____ में शुरू हुई थी।

Ans 1. 1969

2. 1973

3. 1962

4. 1966

Question ID : 264330116119

Status : Answered

Chosen Option : 1

Q.17 इनमें से कौन-सा एक मूल कर्तव्य नहीं है?

Ans 1. राष्ट्रगान का सम्मान करना

2. राष्ट्रीय स्वतंत्रता संग्राम के विचारों को पोषित करना

3. मत डालने का कर्तव्य

4. राष्ट्रीय ध्वज का सम्मान करना

Question ID : 26433089180

Status : Answered

Chosen Option : 2

Q.18 बैंकों के बैंकर के रूप में _____ 'अंतिम ऋणदाता' के रूप में भी कार्य करता है।

Ans 1. भारतीय स्टेट बैंक

2. यूनिजन बैंक ऑफ इंडिया

3. राष्ट्रीयकृत भारतीय बैंक

4. भारतीय रिजर्व बैंक

Question ID : 264330115320

Status : Answered

Chosen Option : 4

Q.19 _____ एक व्यापार नीति है, जो आयात या निर्यात को प्रतिबंधित नहीं करती है।

Ans 1. स्थानीय व्यापार

2. स्विस व्यापार

3. मुक्त व्यापार

4. निष्पक्ष व्यापार

Question ID : 264330115386

Status : Not Answered

Chosen Option : --

Q.20 केंद्र सरकार द्वारा अगस्त 2022 में, नेशनल इंटेलीजेंस ग्रिड (NATGRID) के नए मुख्य कार्यकारी अधिकारी के रूप में किसे चुना गया?

- Ans
- 1. सत्य लोला
 - 2. पीयूष गोयल
 - 3. आशीष गुप्ता
 - 4. रघु रमन

Question ID : 264330115023
Status : Not Answered
Chosen Option : --

Section : Part-C-Elementary Mathematics

Q.1 अतुल अकेला एक कार्य को 114 दिनों में पूरा कर सकता है। उसी कार्य को 19 दिनों में पूरा करने के लिए अतुल जैसी दक्षता वाले कितने व्यक्तियों की आवश्यकता थी?

- Ans
- 1. 8
 - 2. 7
 - 3. 6
 - 4. 5

Question ID : 264330116850
Status : Answered
Chosen Option : 3

Q.2 एक वस्तु का अंकित मूल्य 1600 रुपए है लेकिन रोहन को 20 प्रतिशत की छूट मिलती है। वह 1600 रुपए में वस्तु बेचता है। रोहन का लाभ प्रतिशत है:

- Ans
- 1. 25 प्रतिशत
 - 2. 22 प्रतिशत
 - 3. 20 प्रतिशत
 - 4. 18 प्रतिशत

Question ID : 264330116735
Status : Answered
Chosen Option : 1

Q.3 34 व्यक्तियों के समूह में 90 kg वजन वाले एक व्यक्ति के स्थान पर एक नए व्यक्ति के शामिल होने पर उनका औसत वजन 3 kg बढ़ जाता है। नए व्यक्ति का वजन ज्ञात कीजिए।

- Ans
- 1. 192 kg
 - 2. 196 kg
 - 3. 190 kg
 - 4. 202 kg

Question ID : 26433079998
Status : Answered
Chosen Option : 1

Q.4 एक फल व्यापारी एक निश्चित मूल्य पर आम बेचकर 25% का लाभ कमाता है। यदि वह प्रत्येक आम पर Rs.3 अधिक मूल्य लेता है, तो उसे 40% का लाभ होगा। एक आम का क्रय मूल्य ज्ञात कीजिए।

- Ans
- 1. Rs.25
 - 2. Rs.20
 - 3. Rs.15
 - 4. Rs.30

Question ID : 26433074985
Status : Not Answered
Chosen Option : --

Q.5 सबसे बड़ी संख्या के अंकों के बीच अंतर ज्ञात करें जो 144 और 216 को पूर्णतः विभाजित कर सकती है?

- Ans
- 1. 3
 - 2. 5
 - 3. 2
 - 4. 4

Question ID : 264330116639
Status : Answered
Chosen Option : 2

Q.6 A और B के बीच ₹ 5,309 को इस प्रकार विभाजित कीजिए, ताकि 6% प्रति वर्ष की दर से ब्याज चक्रवृद्धि किए जाने पर 4 वर्ष बाद A की राशि, 6 वर्ष बाद B की राशि के बराबर हो जाए, ब्याज का संयोजन वार्षिक रूप से किया गया है।

- Ans
- 1. ₹2,809, ₹2,500
 - 2. ₹2,659, ₹2,650
 - 3. ₹2,709, ₹2,600
 - 4. ₹2,759, ₹2,550

Question ID : 26433074299
Status : Not Answered
Chosen Option : --

Q.7 आठ व्यक्तियों का औसत भार 40 kg है। यदि एक व्यक्ति को हटा दिया जाए, तो औसत भार 38 kg हो जाता है। हटाए गए व्यक्ति का भार कितना है?

- Ans
- 1. 33.25 kg
 - 2. 78 kg
 - 3. 38 kg
 - 4. 54 kg

Question ID : 26433087343
Status : Answered
Chosen Option : 4

Q.8 एक वस्तु का क्रय मूल्य, अंकित मूल्य का 64% है। 20% की छूट देने के बाद लाभ प्रतिशत की गणना कीजिए।

- Ans
- 1. 20%
 - 2. 25%
 - 3. 30%
 - 4. 35%

Question ID : 26433073015
Status : Answered
Chosen Option : 2

Q.9 किसी उत्पाद का विक्रय मूल्य ऐसा है कि विक्रेता को क्रय मूल्य पर 20% का लाभ होता है। विक्रय मूल्य का क्रय मूल्य से अनुपात ज्ञात कीजिए।

- Ans
- 1. $\frac{4}{3}$
 - 2. $\frac{5}{6}$
 - 3. $\frac{3}{4}$
 - 4. $\frac{6}{5}$

Question ID : 26433071306
Status : Answered
Chosen Option : 4

Q.10 2019 की शुरुआत में एक शहर की जनसंख्या 82,000 थी। इसकी जनसंख्या सालाना 2% की दर से बढ़ रही है। 2022 की शुरुआत में इसकी जनसंख्या (निकटतम पूर्णांक तक पूर्णांकित) कितनी है?

- Ans
- 1. 88000
 - 2. 86789
 - 3. 87019
 - 4. 85000

Question ID : 26433075983
Status : Not Answered
Chosen Option : --

Q.11 दो उम्मीदवारों के बीच एक चुनाव में, 80% मतदाताओं ने अपना मत दिया, जिसमें से 5% मत अवैध घोषित कर दिए गए। एक उम्मीदवार को 285000 मत मिले जो कुल वैध मतों का 75% था। उस चुनाव के लिए नामांकित मतदाताओं की कुल संख्या कितनी थी?

- Ans
- 1. 550000
 - 2. 500000
 - 3. 450000
 - 4. 400000

Question ID : 26433087351
Status : Answered
Chosen Option : 2

Q.12 यदि $\frac{5}{8}$ of $184 \times 15 \div 5 + k = 513 \div 9 + 435$ है, तो k का मान ज्ञात कीजिए।

- Ans 1. 136
 2. 192
 3. 239
 4. 147

Question ID : 26433074974
Status : Answered
Chosen Option : 4

Q.13 श्लोक पहले 140 km 3 घंटे में और अगले 180 km 5 घंटे में तय करता है। पूरी यात्रा के दौरान उसकी औसत चाल (km/h में) क्या है?

- Ans 1. 50
 2. 45
 3. 30
 4. 40

Question ID : 26433075241
Status : Answered
Chosen Option : 4

Q.14 एक नाव स्थिर जल में 15 km/h की चाल से चल रही है। धारा की चाल 3 km/h है। नाव को धारा की विपरीत दिशा में 6 km की दूरी तय करने में कितना समय लगेगा?

- Ans 1. 15 मिनट
 2. 45 मिनट
 3. 20 मिनट
 4. 30 मिनट

Question ID : 26433075986
Status : Answered
Chosen Option : 4

Q.15 यदि 3 और 27 का तीसरा समानुपाती 'x' है, तो 'x' और 27 का महत्तम समापवर्तक क्या होगा?

- Ans 1. 3
 2. 15
 3. 27
 4. 9

Question ID : 26433076008
Status : Answered
Chosen Option : 3

Q.16 एक व्यक्ति चावल को 10% लाभ पर बेचता है और वास्तविक माप से 20% कम वजन का उपयोग करता है। उसका लाभ प्रतिशत _____ है।

- Ans
- 1. $37\frac{2}{3}\%$
 - 2. $37\frac{1}{5}\%$
 - 3. $37\frac{1}{3}\%$
 - 4. $37\frac{1}{2}\%$

Question ID : 26433075149

Status : Not Answered

Chosen Option : --

Q.17 एक शंकु है जिसका व्यास 14 cm और ऊंचाई 12 cm है। इसमें प्रत्येक 10 s में 4 cm^3 की दर से पानी भरा जा रहा है। शंकु को भरने में कितना समय लगेगा? ($\pi = \frac{22}{7}$ का उपयोग कीजिए)

- Ans
- 1. 1540 s
 - 2. 6160 s
 - 3. 3080 s
 - 4. 616 s

Question ID : 26433087414

Status : Answered

Chosen Option : 1

Q.18 एक ठोस अर्धगोले का आयतन $1,152\pi\text{ cm}^3$ है। अर्धगोले का वक्र पृष्ठीय क्षेत्रफल ज्ञात करें।

- Ans
- 1. $302\pi\text{ cm}^2$
 - 2. 294 cm^2
 - 3. 344 cm^2
 - 4. $288\pi\text{ cm}^2$

Question ID : 26433075857

Status : Answered

Chosen Option : 4

Q.19 2 घंटे 40 मिनट, 1 घंटे 20 मिनट और 10 घंटे का चतुर्थ आनुपातिक _____ है।

- Ans
- 1. 5 घंटे
 - 2. 6 घंटे
 - 3. 2 घंटे
 - 4. 4 घंटे

Question ID : 26433081579

Status : Answered

Chosen Option : 1

Q.20 दो व्यक्ति P और Q एक साथ कार्य करते हुए एक कार्य को 36 दिनों में पूरा कर सकते हैं। Q अकेले उसे 45 दिनों में पूरा कर सकता है। Q अकेले कार्य शुरू करता है और 5 दिन बाद उसे छोड़ देता है। शेष कार्य को पूरा करने में P को कितने दिन लगेंगे?

Ans 1. 180

2. 140

3. 160

4. 120

Question ID : 26433080229

Status : Not Answered

Chosen Option : --

Section : Part-D-English

Q.1 Select the most appropriate ANTONYM of the given word.

Verbose

Ans 1. Brief

2. Polished

3. Wordy

4. Talkative

Question ID : 26433072665

Status : Not Answered

Chosen Option : --

Q.2 Select the most appropriate option to fill in the blank.

I have made the basket for going to the picnic and I've packed some sandwiches

_____.

Ans 1. too

2. toot

3. to

4. two

Question ID : 26433084617

Status : Not Answered

Chosen Option : --

Q.3 Select the most appropriate meaning of the given idiom.

Wear your heart on your sleeve

Ans 1. Wearing untidy clothes intentionally

2. Spreading scandals mercilessly

3. Imagining unreal things about others

4. Expressing emotions very openly

Question ID : 26433073486

Status : Not Answered

Chosen Option : --

Q.4 Select the most appropriate meaning of the given idiom.

To add fuel to fire.

- Ans
- 1. To start the conversation
 - 2. To make a bad situation worse
 - 3. To speak against someone
 - 4. To fight over trivial thing

Question ID : 26433072537
Status : Not Answered
Chosen Option : --

Q.5 Select the most appropriate option to fill in the blank.

My uncle's legal _____ is his son.

- Ans
- 1. hair
 - 2. here
 - 3. hare
 - 4. heir

Question ID : 26433073933
Status : Not Answered
Chosen Option : --

Q.6 In the following passage, some words have been deleted. Read the passage carefully and select the most appropriate option to fill in the blanks.

Blood transfusion is a procedure that starts with the doctor (1) _____ the patients' blood type. In case of a wrong transfusion in the immune (2) _____ of an individual, it leads to an infection.

- Ans
- 1. treating; process
 - 2. determining; system
 - 3. settling; order
 - 4. diagnosing; structure

Question ID : 26433084742
Status : Not Answered
Chosen Option : --

Q.7 Substitute the underlined words with the option that is closest in meaning to it.

Rahul likes to keep his house spic and span.

- Ans
- 1. rich and famous
 - 2. shabby and dirty
 - 3. bright and glory
 - 4. neat and clean

Question ID : 26433088952
Status : Not Answered
Chosen Option : --

Q.8 Select the most appropriate homonym to fill in the blank.
The authorities _____ the unregistered companies.

- Ans
- 1. sees
 - 2. seas
 - 3. cease
 - 4. seize

Question ID : 26433058519
Status : Not Answered
Chosen Option : --

Q.9 Select the most appropriate synonym of the underlined word.

Since the last few hours his pulse rate is constant.

- Ans
- 1. Pitiful
 - 2. Reflective
 - 3. Steady
 - 4. Fickle

Question ID : 26433084682
Status : Not Answered
Chosen Option : --

Q.10 Select the INCORRECTLY spelt word.

- Ans
- 1. Covardice
 - 2. Statutory
 - 3. Brandish
 - 4. Treachery

Question ID : 26433073506
Status : Not Answered
Chosen Option : --

Q.11 Select the most appropriate option to substitute the underlined segment in the given sentence to make it a meaningful sentence. If no substitution is required, select 'No substitution'.

There are hundred of superstitions that survive in various parts of the country, and the study of them is rather amusing.

- Ans
- 1. There are hundred of superstition that survived in various parts of the country, and the study of them is rather amusing.
 - 2. No substitution
 - 3. There are hundreds of superstitions that survive in various parts of the country, and the study of them is rather amusing.
 - 4. There are hundred of superstition that survive in various parts of the country, and the study of them is rather amusing.

Question ID : 26433092043
Status : Not Answered
Chosen Option : --

Q.12 Select the most appropriate spelling that can correctly substitute the misspelt underlined segment in the given sentence.

The thick dirt on the building was the acretion of ages.

- Ans
- 1. acretion
 - 2. accration
 - 3. accretion
 - 4. acration

Question ID : 26433071936
Status : Not Answered
Chosen Option : --

Q.13 Select the most appropriate synonym of the given word.

Valid

- Ans
- 1. Fake
 - 2. Logical
 - 3. Illicit
 - 4. Evil

Question ID : 26433073688
Status : Not Answered
Chosen Option : --

Q.14 The given sentence is divided into three segments. Select the option that has the segment with a grammatical error. If there is no error, select 'no error' as your answer.

Ameya won't / eat / any junk food at all.

- Ans
- 1. any junk food at all
 - 2. eat
 - 3. Ameya won't
 - 4. No error

Question ID : 26433071859
Status : Not Answered
Chosen Option : --

Q.15 Select the most appropriate ANTONYM of the given word.
Lucid

- Ans
- 1. Bloat
 - 2. Jolt
 - 3. Stark
 - 4. Dark

Question ID : 26433066087
Status : Not Answered
Chosen Option : --

Comprehension:

In the following passage some words have been deleted. Fill in the blanks with the help of the alternatives given. Select the most appropriate option for each number.

Ayurveda views a person more than bones and muscle. According to it, you are a spirit that represents the *vata*, *pitta*, and *kapha* elements. Ayurveda (1) _____ impacts your health by bringing an (2) _____ in your body, mind, and soul. By consuming healthy food according to the body's constitution, and performing yoga stretches, and meditation, you will start to see (3) _____ results. Ayurveda impacts the body at the deepest cellular levels. It helps in healing, and (4) _____ of cells, to protect it from a wide range of ailments naturally. According to Ayurveda, when a person eats wrong food, then "ama" or toxin gets deposited in the body. If this waste-product is not eliminated from the body soon, then it starts to spread in different areas of the body. This is the major reason behind experiencing an (5) _____ in the body.

SubQuestion No : 16

Q.16 Select the most appropriate option to fill in blank 1.

- Ans 1. probably
 2. positively
 3. negatively
 4. casually

Question ID : 26433073176

Status : Not Answered

Chosen Option : --

Comprehension:

In the following passage some words have been deleted. Fill in the blanks with the help of the alternatives given. Select the most appropriate option for each number.

Ayurveda views a person more than bones and muscle. According to it, you are a spirit that represents the *vata*, *pitta*, and *kapha* elements. Ayurveda (1) _____ impacts your health by bringing an (2) _____ in your body, mind, and soul. By consuming healthy food according to the body's constitution, and performing yoga stretches, and meditation, you will start to see (3) _____ results. Ayurveda impacts the body at the deepest cellular levels. It helps in healing, and (4) _____ of cells, to protect it from a wide range of ailments naturally. According to Ayurveda, when a person eats wrong food, then "ama" or toxin gets deposited in the body. If this waste-product is not eliminated from the body soon, then it starts to spread in different areas of the body. This is the major reason behind experiencing an (5) _____ in the body.

SubQuestion No : 17

Q.17 Select the most appropriate option to fill in blank 2.

- Ans 1. basis
 2. foundation
 3. equilibrium
 4. substance

Question ID : 26433073177

Status : Not Answered

Chosen Option : --

Comprehension:

In the following passage some words have been deleted. Fill in the blanks with the help of the alternatives given. Select the most appropriate option for each number.

Ayurveda views a person more than bones and muscle. According to it, you are a spirit that represents the *vata*, *pitta*, and *kapha* elements. Ayurveda (1) _____ impacts your health by bringing an (2) _____ in your body, mind, and soul. By consuming healthy food according to the body's constitution, and performing yoga stretches, and meditation, you will start to see (3) _____ results. Ayurveda impacts the body at the deepest cellular levels. It helps in healing, and (4) _____ of cells, to protect it from a wide range of ailments naturally. According to Ayurveda, when a person eats wrong food, then "ama" or toxin gets deposited in the body. If this waste-product is not eliminated from the body soon, then it starts to spread in different areas of the body. This is the major reason behind experiencing an (5) _____ in the body.

SubQuestion No : 18

Q.18 Select the most appropriate option to fill in blank 3.

- Ans 1. invisible
 2. visible
 3. gentle
 4. sluggish

Question ID : 26433073178

Status : Not Answered

Chosen Option : --

Comprehension:

In the following passage some words have been deleted. Fill in the blanks with the help of the alternatives given. Select the most appropriate option for each number.

Ayurveda views a person more than bones and muscle. According to it, you are a spirit that represents the *vata*, *pitta*, and *kapha* elements. Ayurveda (1) _____ impacts your health by bringing an (2) _____ in your body, mind, and soul. By consuming healthy food according to the body's constitution, and performing yoga stretches, and meditation, you will start to see (3) _____ results. Ayurveda impacts the body at the deepest cellular levels. It helps in healing, and (4) _____ of cells, to protect it from a wide range of ailments naturally. According to Ayurveda, when a person eats wrong food, then "ama" or toxin gets deposited in the body. If this waste-product is not eliminated from the body soon, then it starts to spread in different areas of the body. This is the major reason behind experiencing an (5) _____ in the body.

SubQuestion No : 19

Q.19 Select the most appropriate option to fill in blank 4.

- Ans 1. loss
 2. degeneration
 3. regeneration
 4. benefit

Question ID : 26433073179

Status : Not Answered

Chosen Option : --

Comprehension:

In the following passage some words have been deleted. Fill in the blanks with the help of the alternatives given. Select the most appropriate option for each number.

Ayurveda views a person more than bones and muscle. According to it, you are a spirit that represents the *vata*, *pitta*, and *kapha* elements. Ayurveda (1) ____ impacts your health by bringing an (2) ____ in your body, mind, and soul. By consuming healthy food according to the body's constitution, and performing yoga stretches, and meditation, you will start to see (3) ____ results. Ayurveda impacts the body at the deepest cellular levels. It helps in healing, and (4) ____ of cells, to protect it from a wide range of ailments naturally. According to Ayurveda, when a person eats wrong food, then "ama" or toxin gets deposited in the body. If this waste-product is not eliminated from the body soon, then it starts to spread in different areas of the body. This is the major reason behind experiencing an (5) ____ in the body.

SubQuestion No : 20

Q.20 Select the most appropriate option to fill in blank 5.

- Ans 1. imbalance
 2. potential
 3. energy
 4. weakness

Question ID : 26433073180
Status : Not Answered
Chosen Option : --

Section : Part-D-Hindi

Q.1 निम्नलिखित विकल्पों में से किस एक वाक्य में विशेषण का उचित प्रयोग किया गया है?

- Ans 1. रोज स्कूल जाओ।
 2. पानी से नहाओ।
 3. खाना खाओ।
 4. मीठा फल खाओ।

Question ID : 26433062961
Status : Answered
Chosen Option : 4

Q.2 "भिखारी को देखकर उसे उस पर _____ आ गई।"
उपरोक्त वाक्य में रिक्त स्थान पर निम्न में से किस शब्द का प्रयोग सर्वाधिक उपयुक्त होगा?

- Ans 1. माया
 2. दया
 3. अनुकंपा
 4. कृपा

Question ID : 26433067005
Status : Answered
Chosen Option : 2

Q.3 अशुद्ध वर्तनी वाला वाक्य पहचानिए।

- Ans
- 1. मेरी पत्नी बीमार है।
 - 2. दादी की मृत्यु से हमें बड़ा शोक हुआ।
 - 3. मुझे तुमसे मिलने की उत्सुकता थी।
 - 4. बहुत भाग - दउड़ के बाद कलेज में उनका प्रवेश हुआ।

Question ID : 26433063064

Status : Answered

Chosen Option : 4

Q.4 निम्नलिखित विकल्पों में से 'साधारण या व्यापक नियम के विरुद्ध चीजें' वाक्यांश के लिए एक सार्थक शब्द क्या होगा ?

- Ans
- 1. अपूर्व
 - 2. अपवाद
 - 3. नीरवता
 - 4. आलोचक

Question ID : 26433062475

Status : Answered

Chosen Option : 2

Q.5 निम्नलिखित वाक्य में रेखांकित खंड के स्थान पर प्रयुक्त होने वाले सबसे उपयुक्त विकल्प का चयन कीजिए।

उसके चाची का लड़की हुई है।

- Ans
- 1. में
 - 2. को
 - 3. के
 - 4. से

Question ID : 26433079571

Status : Answered

Chosen Option : 2

Q.6 निम्नलिखित विकल्पों में से किस एक वाक्य में क्रिया सम्बन्धी अशुद्धि है?

- Ans
- 1. दूसरों के चरित्र पर अकारण ही कीचड़ नहीं डालना चाहिए।
 - 2. कृपया उत्तर शीघ्र दें।
 - 3. चोरी करते हुए पकड़े जाने पर उस पर घड़ों पानी पड़ गया।
 - 4. वह लड़का दौड़ता है।

Question ID : 26433091233

Status : Answered

Chosen Option : 3

Q.7 'अतिवृष्टि' का सही विलोम निम्न में से क्या है?

- Ans
- 1. अवृष्टि
 - 2. बाढ़
 - 3. निवृष्टि
 - 4. अनावृष्टि

Question ID : 26433062924
Status : Answered
Chosen Option : 4

Q.8 निम्नलिखित वाक्य के रिक्त स्थान में सबसे उपयुक्त मुहावरा क्या होगा?
'श्रवण कुमार अपने माता पिता के लिए _____ थे।'

- Ans
- 1. अंधे की लकड़ी
 - 2. हाथी के दांत
 - 3. काठ के उल्लू
 - 4. दाढ़ी में तिनका

Question ID : 26433066735
Status : Answered
Chosen Option : 1

Q.9 निम्नलिखित विकल्पों में से 'घुन लगना' मुहावरे का अर्थ क्या है?

- Ans
- 1. निराश होना
 - 2. क्षय होना
 - 3. भय होना
 - 4. खुश होना

Question ID : 26433062552
Status : Answered
Chosen Option : 2

Q.10 वर्तनी की दृष्टि से अशुद्ध वाक्य का चयन कीजिए-

- Ans
- 1. राम का शत्रू रावण मारा गया।
 - 2. मैंने उसकी अस्वस्थता के बारे में सुना था।
 - 3. वह अपनी उम्र के तीसवें वर्ष तक अविवाहित था।
 - 4. मैं आपसे छुट्टी के लिए प्रार्थना करता हूँ।

Question ID : 26433062892
Status : Answered
Chosen Option : 2

Q.11 'क्रम के अनुसार' वाक्यांश के लिए सार्थक शब्द है-

- Ans 1. क्रमांक
 2. यथाक्रम
 3. असंख्य
 4. सक्रम

Question ID : 26433065869
Status : Answered
Chosen Option : 2

Q.12 सृष्टि के निर्माता ब्रह्मा हैं, तो विनाशक _____।
'शिव' के पर्याय से उक्त वाक्य में रिक्त स्थान की पूर्ति कीजिए।

- Ans 1. त्रिलोचन
 2. मार्तण्ड
 3. लोकेश
 4. विभु

Question ID : 26433084990
Status : Answered
Chosen Option : 1

Q.13 'कुत्ता रेंकता है।' इस वाक्य में रेखांकित शब्द के स्थान पर उपयुक्त शब्द क्या होगा?

- Ans 1. मिमियाता
 2. गुटरगू करता
 3. चहचहाता
 4. भौंकता

Question ID : 26433062779
Status : Answered
Chosen Option : 4

Q.14 'वसंत ऋतु में वृक्षों में नव पल्लव आते हैं।' वाक्य में प्रयुक्त 'पल्लव' शब्द का अर्थ है-

- Ans 1. डाली
 2. शाखा
 3. पत्ता
 4. फूल

Question ID : 26433069742
Status : Answered
Chosen Option : 3

Q.15 'साहित्य से संबंधित' वाक्यांश के लिए एक शब्द होगा-

- Ans 1. साहित्यिक
 2. सरोकार
 3. सामाजिक
 4. दर्पण

Question ID : 26433065734

Status : Answered

Chosen Option : 1

Comprehension:

निम्नलिखित गद्यांश में कुछ शब्दों को हटा दिया गया है। दिए गए विकल्पों की सहायता से रिक्त स्थानों की पूर्ति कीजिए। प्रत्येक संख्या के लिए सबसे उपयुक्त विकल्प का चयन करें।
संसार में सैकड़ों प्रकार के प्राणी हैं, इनमें मानव जीवन 1. _____ है। वह सोच-समझ कर 2. _____ लेता है कि उसे क्या करना चाहिए तथा उसके लिए क्या उपयोगी है जो उसे अपने 3. _____ तक पहुँचा दे। उसके जीवन की 4. _____ तभी है जब वह आकांक्षा या लक्ष्य लेकर जीवन व्यतीत करें। जीवन एक प्रकार की 5. _____ है, जहाँ नित्य नए-नए अनुभव होते हैं।

SubQuestion No : 16

Q.16 रिक्त स्थान 1 की पूर्ति के लिए सबसे उपयुक्त विकल्प का चयन कीजिए।

- Ans 1. अधूरा
 2. सर्वश्रेष्ठ
 3. प्रारंभ
 4. पूरा

Question ID : 264330111029

Status : Answered

Chosen Option : 2

Comprehension:

निम्नलिखित गद्यांश में कुछ शब्दों को हटा दिया गया है। दिए गए विकल्पों की सहायता से रिक्त स्थानों की पूर्ति कीजिए। प्रत्येक संख्या के लिए सबसे उपयुक्त विकल्प का चयन करें।
संसार में सैकड़ों प्रकार के प्राणी हैं, इनमें मानव जीवन 1. _____ है। वह सोच-समझ कर 2. _____ लेता है कि उसे क्या करना चाहिए तथा उसके लिए क्या उपयोगी है जो उसे अपने 3. _____ तक पहुँचा दे। उसके जीवन की 4. _____ तभी है जब वह आकांक्षा या लक्ष्य लेकर जीवन व्यतीत करें। जीवन एक प्रकार की 5. _____ है, जहाँ नित्य नए-नए अनुभव होते हैं।

SubQuestion No : 17

Q.17 रिक्त स्थान 2 की पूर्ति के लिए सबसे उपयुक्त विकल्प का चयन कीजिए।

- Ans 1. अनिवार्य
 2. देखता
 3. उपचार
 4. निर्णय

Question ID : 264330111030

Status : Answered

Chosen Option : 4

Comprehension:

निम्नलिखित गद्यांश में कुछ शब्दों को हटा दिया गया है। दिए गए विकल्पों की सहायता से रिक्त स्थानों की पूर्ति कीजिए। प्रत्येक संख्या के लिए सबसे उपयुक्त विकल्प का चयन करें।
संसार में सैकड़ों प्रकार के प्राणी हैं, इनमें मानव जीवन 1. _____ है। वह सोच-समझ कर 2. _____ लेता है कि उसे क्या करना चाहिए तथा उसके लिए क्या उपयोगी है जो उसे अपने 3. _____ तक पहुँचा दे। उसके जीवन की 4. _____ तभी है जब वह आकांक्षा या लक्ष्य लेकर जीवन व्यतीत करें। जीवन एक प्रकार की 5. _____ है, जहाँ नित्य नए-नए अनुभव होते हैं।

SubQuestion No : 18

Q.18 रिक्त स्थान 3 की पूर्ति के लिए सबसे उपयुक्त विकल्प का चयन कीजिए।

- Ans
- 1. सीमा
 - 2. लक्ष्य
 - 3. प्रारंभ
 - 4. कर्तव्य

Question ID : 264330111031

Status : Answered

Chosen Option : 2

Comprehension:

निम्नलिखित गद्यांश में कुछ शब्दों को हटा दिया गया है। दिए गए विकल्पों की सहायता से रिक्त स्थानों की पूर्ति कीजिए। प्रत्येक संख्या के लिए सबसे उपयुक्त विकल्प का चयन करें।
संसार में सैकड़ों प्रकार के प्राणी हैं, इनमें मानव जीवन 1. _____ है। वह सोच-समझ कर 2. _____ लेता है कि उसे क्या करना चाहिए तथा उसके लिए क्या उपयोगी है जो उसे अपने 3. _____ तक पहुँचा दे। उसके जीवन की 4. _____ तभी है जब वह आकांक्षा या लक्ष्य लेकर जीवन व्यतीत करें। जीवन एक प्रकार की 5. _____ है, जहाँ नित्य नए-नए अनुभव होते हैं।

SubQuestion No : 19

Q.19 रिक्त स्थान 4 की पूर्ति के लिए सबसे उपयुक्त विकल्प का चयन कीजिए।

- Ans
- 1. सार्थकता
 - 2. निश्चय
 - 3. महत्त्वपूर्ण
 - 4. विफलता

Question ID : 264330111032

Status : Answered

Chosen Option : 1

Comprehension:

निम्नलिखित गद्यांश में कुछ शब्दों को हटा दिया गया है। दिए गए विकल्पों की सहायता से रिक्त स्थानों की पूर्ति कीजिए। प्रत्येक संख्या के लिए सबसे उपयुक्त विकल्प का चयन करें।
संसार में सैकड़ों प्रकार के प्राणी हैं, इनमें मानव जीवन 1. _____ है। वह सोच-समझ कर 2. _____ लेता है कि उसे क्या करना चाहिए तथा उसके लिए क्या उपयोगी है जो उसे अपने 3. _____ तक पहुँचा दे। उसके जीवन की 4. _____ तभी है जब वह आकांक्षा या लक्ष्य लेकर जीवन व्यतीत करें। जीवन एक प्रकार की 5. _____ है, जहाँ नित्य नए-नए अनुभव होते हैं।

SubQuestion No : 20

Q.20 रिक्त स्थान 5 की पूर्ति के लिए सबसे उपयुक्त विकल्प का चयन कीजिए।

- Ans
- ✓ 1. प्रयोगशाला
 - ✗ 2. किताबशाला
 - ✗ 3. योग्यता
 - ✗ 4. कृतज्ञता

Question ID : 264330111033

Status : Answered

Chosen Option : 3

KD Job Updates

Constable GD in CAPFs SSF Rifleman GD in Assam Rifles and Sepoy in NCB Examination 2022

Roll Number	KD Job Updates
Candidate Name	KD Job Updates
Venue Name	Jaipur Engineering College
Exam Date	13/02/2023
Exam Time	2:30 PM - 3:30 PM
Subject	Constable GD Examination 2022

Section : Part-A-General Intelligence and Reasoning

Q.1 निम्नलिखित में से कौन-सा पद दी गई श्रृंखला में प्रश्न-चिह्न (?) के स्थान पर आएगा?
MDVG, NFKY, OHBO, PJES, ?

- Ans
- 1. QIGQ
 - 2. QLHW
 - 3. QLFU
 - 4. QKGU

Question ID : 26433069447

Status : Answered

Chosen Option : 2

Q.2 तीन कथनों के बाद तीन निष्कर्ष I, II और III दिए गए हैं। कथनों को सत्य मानते हुए, भले ही वे सामान्य रूप से ज्ञात तथ्यों से भिन्न प्रतीत होते हों, निर्धारित करें कि कौन-सा/से निष्कर्ष, कथनों का तार्किक रूप से अनुसरण करता है/करते हैं।

कथन:

सभी हाथ उंगलियां हैं।

सभी पैर उंगलियां हैं।

सभी उंगलियां 'पैर के अंगूठे' हैं।

निष्कर्ष:

I. सभी पैर, पैर के अंगूठे हैं।

II. सभी पैर के अंगूठे हाथ हैं।

III. कुछ पैर के अंगूठे पैर हैं।

- Ans
- 1. केवल निष्कर्ष II और III अनुसरण करते हैं
 - 2. केवल निष्कर्ष I और III अनुसरण करते हैं
 - 3. सभी निष्कर्ष अनुसरण करते हैं
 - 4. केवल निष्कर्ष I और II अनुसरण करते हैं

Question ID : 26433082313

Status : Answered

Chosen Option : 2

Q.3 निम्नलिखित में से कौन-सी संख्या दी गई श्रृंखला में प्रश्न चिह्न (?) के स्थान पर आएगी?
2, 5, 18, 41, ?

- Ans
- 1. 43
 - 2. 67
 - 3. 31
 - 4. 74

Question ID : 26433082738

Status : Answered

Chosen Option : 4

Q.4 उस विकल्प का चयन कीजिए जो नीचे दिए गए शब्दों के उस क्रम को निरूपित करता है जिस क्रम में वे अंग्रेजी शब्दकोश में आते हैं।

1. PRISM
2. PRINT
3. PRIOR
4. PRISE
5. PROBE
6. PRIZE

- Ans
- 1. 1, 3, 2, 4, 6, 5
 - 2. 5, 6, 4, 1, 2, 3
 - 3. 3, 2, 4, 1, 6, 5
 - 4. 2, 3, 4, 1, 6, 5

Question ID : 26433079382

Status : Answered

Chosen Option : 4

Q.5 छः छात्र - मेलानी, सुचेता, मार्टिन, सुज़ैन, दानिश और जैकब एक वृत्ताकार मेज के परितः मेज के केंद्र की ओर मुख करके बैठे हैं। मेलानी, सुचेता के दाईं ओर दूसरे स्थान पर बैठी है। सुज़ैन, मेलानी और सुचेता के ठीक बगल में है। दानिश, सुज़ैन के दाईं ओर तीसरे स्थान पर बैठा है। मार्टिन, सुचेता और दानिश के ठीक बगल में है। जैकब, सुचेता के दाईं ओर तीसरे स्थान पर बैठा है। मार्टिन और सुज़ैन के बीच में कौन बैठा/बैठी है?

- Ans
- 1. दानिश
 - 2. जैकब
 - 3. सुचेता
 - 4. मेलानी

Question ID : 26433081789

Status : Answered

Chosen Option : 3

Q.6 निम्नलिखित में से कौन-सा अक्षर-समूह दी गई श्रृंखला में प्रश्न-चिह्न (?) के स्थान पर आएगा?
PDYI, MGVL, ?, GMPR, DPMU

- Ans
- 1. JJSO
 - 2. KJRO
 - 3. JJTP
 - 4. IJSO

Question ID : 26433076434

Status : Answered

Chosen Option : 1

Q.7 एक परिवार में छः सदस्य A, B, C, D, E और F हैं। D के 3 बेटे A, B और C हैं। D बच्चों का पिता नहीं है। B का एक बेटा E है। C की एक बेटी F है। B, F से किस प्रकार संबंधित है?

- Ans
- 1. दादा
 - 2. बेटा
 - 3. चाचा/ताऊ
 - 4. पिता

Question ID : 26433074595

Status : Answered

Chosen Option : 3

Q.8 एक निश्चित कूट भाषा में, 'COGENT' को 'FMJCQR' और 'BRINK' को 'EPLLN' के रूप में लिखा जाता है। उसी कूट भाषा में 'RANKED' को किस प्रकार से लिखा जाएगा?

- Ans
- 1. UZRJGA
 - 2. NVLOZA
 - 3. UYQIHB
 - 4. MXCHVI

Question ID : 26433069462

Status : Answered

Chosen Option : 3

Q.9 नीचे दिए गए समीकरण को गणितीय रूप से सही बनाने के लिए किन दो चिन्हों को परस्पर बदलना चाहिए?

$$24 + 72 \div 12 \times 36 - 12 = 168$$

- Ans
- 1. + और -
 - 2. × और +
 - 3. + और -
 - 4. × और ÷

Question ID : 264330117530

Status : Answered

Chosen Option : 2

Q.10 उस विकल्प का चयन करें जो तीसरे पद से उसी तरह से संबंधित है, जिस तरह से दूसरा पद पहले पद से संबंधित है।

ELECTRIC : GNGEVTKE :: NUCLEAR : ?

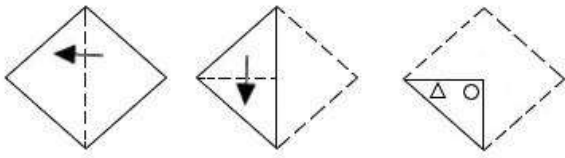
- Ans
- 1. MTBKDZQ
 - 2. OVDMDBS
 - 3. PDZQDBS
 - 4. PWENGCT

Question ID : 26433067261

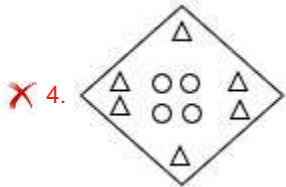
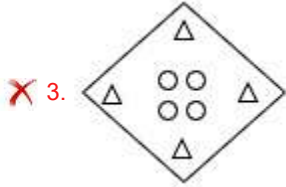
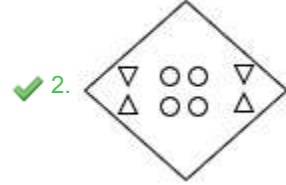
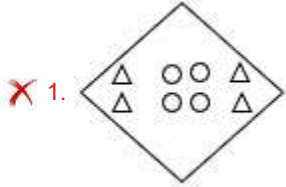
Status : Answered

Chosen Option : 4

Q.11 एक कागज को नीचे दर्शाए गए अनुसार मोड़ा और काटा जाता है। खोले जाने पर यह कैसा दिखाई देगा?



Ans



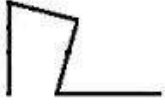
KD Job Updates

Question ID : 26433090092
 Status : Answered
 Chosen Option : 2

Q.12

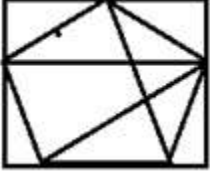
निम्नलिखित विकल्पों में से उस आकृति का चयन करें जिसमें नीचे दी गई

आकृति सन्निहित है (आकृति को घुमाने की अनुमति नहीं है)।

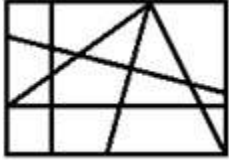


Ans

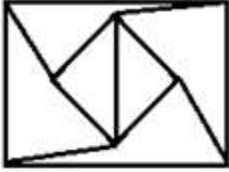
✗ 1.



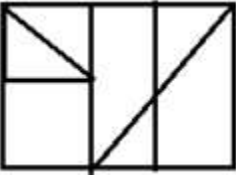
✓ 2.



✗ 3.



✗ 4.



Question ID : 26433069542

Status : Answered

Chosen Option : 2

Q.13 उस विकल्प का चयन करें जो तिसरा पद से उसी प्रकार संबंधित है, जिस प्रकार दुसरा पद पहले पद से और छठा पद पांचवे पद से संबंधित है।

13 : 196 :: 16 : ? :: 17 : 324

Ans ✗ 1. 258

✗ 2. 298

✓ 3. 289

✗ 4. 292

Question ID : 26433069096

Status : Answered

Chosen Option : 3

Q.14 निम्नलिखित में से कौन-सी संख्याएं दी गई श्रंखला में प्रश्न-चिह्नों (?) के स्थान पर आएंगी?
99, 110, 132, ?, 209, ?, 330

- Ans
- 1. 168, 268
 - 2. 169, 288
 - 3. 188, 294
 - 4. 165, 264

Question ID : 26433070226

Status : Answered

Chosen Option : 4

Q.15 दी गई आकृति के सही दर्पण प्रतिबिम्ब का चयन करें जब दर्पण को MN पर रखा जाए जैसा कि नीचे दर्शाया गया है।



- Ans
- 1. yH96r6oiJdid
 - 2. Yh96r6g oiJdid
 - 3. yH96r6oiJBiD
 - 4. Yh96r6oiJdid

Question ID : 26433085547

Status : Answered

Chosen Option : 3

Q.16 एक निश्चित कूट भाषा में, 'FOREST' को 'SPGVUG' के रूप में लिखा जाता है और 'FRENCH' को 'FSGJEP' के रूप में लिखा जाता है। उसी भाषा में 'FRIEND' को कैसे लिखा जाएगा?

- Ans
- 1. JSGDNE
 - 2. IRFFPG
 - 3. JSGFPG
 - 4. IRFDNE

Question ID : 26433090045

Status : Answered

Chosen Option : 3

Q.17 सात व्यक्ति A, B, C, D, E, F और G एक सीधी पंक्ति में उत्तर की ओर मुख करके बैठे हैं। A बाईं ओर से दूसरे स्थान पर बैठा है। A और C के बीच केवल दो व्यक्ति बैठे हैं। D और F के बीच केवल तीन व्यक्ति बैठे हैं, और D, A के ठीक बगल में है। B, D के ठीक बगल में है, और E, C के ठीक बगल में नहीं है। F के बाईं ओर ठीक बगल में कौन बैठा है?

- Ans 1. G
 2. B
 3. C
 4. E

Question ID : 26433056933

Status : Answered

Chosen Option : 1

Q.18 उस विकल्प का चयन कीजिए जो तीसरे शब्द से उसी प्रकार संबंधित है जिस प्रकार दूसरा शब्द पहले शब्द से संबंधित है। (शब्दों को अर्थपूर्ण शब्दों के रूप में मानना है और उन्हें शब्द में अक्षरों/व्यंजनों/स्वरों की संख्या के आधार पर एक-दूसरे से संबंधित नहीं करना है।)
बाघ : भारत :: ज़ायंट पांडा : ?

- Ans 1. ताइवान
 2. वियतनाम
 3. रूस
 4. चीन

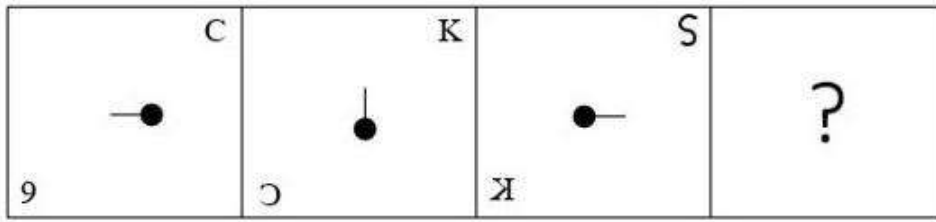
Question ID : 26433079480

Status : Not Answered

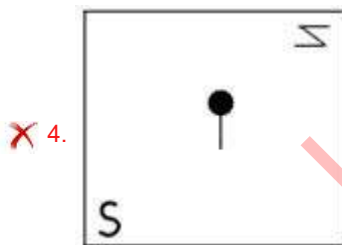
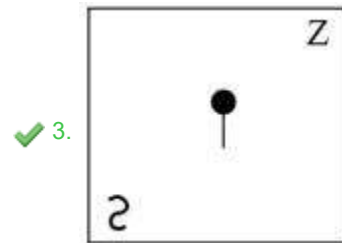
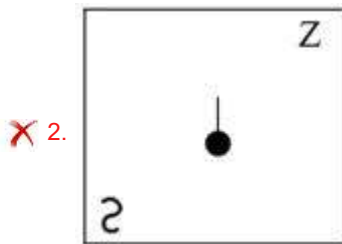
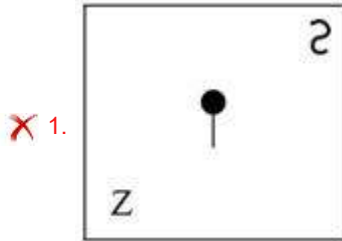
Chosen Option : --

KD Job Updates

Q.19 दिए गए विकल्पों में से उस आकृति का चयन करें जो निम्न श्रृंखला में प्रश्नवाचक चिन्ह (?) के स्थान पर आ सकती है।



Ans



KD Job Updates

Question ID : 26433080763
 Status : Answered
 Chosen Option : 3

Q.20 विकल्पों में दिए गए गणितीय चिह्नों का कौन सा संयोजन निम्न समीकरण में * चिह्नों के स्थान पर क्रमिक रूप से आकर समीकरण को संतुलित करेगा?
420 * 42 * 10 * 2 * 102

- Ans
- 1. x, ÷, =, +
 - 2. =, +, x, ÷
 - 3. ÷, x, +, =
 - 4. ÷, +, =, x

Question ID : 26433094987
Status : Answered
Chosen Option : 3

Section : Part-B-General Knowledge and General awareness

Q.1 नवंबर 2022 तक की स्थिति के अनुसार, भारत में केंद्रीय कानून मंत्री कौन हैं?

- Ans
- 1. देवेन्द्र फडणवीस
 - 2. अश्विनी वैष्णव
 - 3. किरण रिजिजू
 - 4. पीयूष गोयल

Question ID : 264330114965
Status : Not Answered
Chosen Option : --

Q.2 पांच दिवसीय गंगा महोत्सव उत्तर प्रदेश के किस शहर में मनाया जाता है?

- Ans
- 1. नोएडा
 - 2. लखनऊ
 - 3. वाराणसी
 - 4. कानपुर

Question ID : 26433092392
Status : Answered
Chosen Option : 3

Q.3 कोशिका, किसी जीव का _____ जीवित भाग होता है।

- Ans
- 1. सबसे बारीक
 - 2. सबसे छोटा
 - 3. सबसे पतला
 - 4. सबसे लंबा

Question ID : 264330115242
Status : Answered
Chosen Option : 4

Q.4 वांगला _____ का प्रसिद्ध लोक नृत्य है।

- Ans
- 1. पश्चिम बंगाल
 - 2. मेघालय
 - 3. बिहार
 - 4. मिज़ोरम

Question ID : 26433071661

Status : Not Answered

Chosen Option : --

Q.5 मूल कर्तव्यों की सूची की उप-धारा (g) किससे संबंधित है?

- Ans
- 1. प्रकृतिक पर्यावरण की रक्षा और उसका संवर्धन करना
 - 2. हमारी मिली-जुली संस्कृति की समृद्ध विरासत का संरक्षण करना
 - 3. सार्वजनिक संपत्ति की सुरक्षा
 - 4. बच्चों की शिक्षा

Question ID : 26433054522

Status : Not Answered

Chosen Option : --

Q.6 निम्नलिखित में से कौन-सा भारतीय राज्य, चीन के साथ अपनी सीमा साझा नहीं करता है?

- Ans
- 1. अरुणाचल प्रदेश
 - 2. हिमाचल प्रदेश
 - 3. उत्तर प्रदेश
 - 4. सिक्किम

Question ID : 264330116101

Status : Not Answered

Chosen Option : --

Q.7 _____ एक इलेक्ट्रॉनिक भुगतान प्रणाली है जो किसी बैंक या अन्य किसी वित्तीय संस्थान के ग्राहकों को वित्तीय संस्थान की वेबसाइट के माध्यम से कई प्रकार के वित्तीय लेनदेन करने में सक्षम बनाती है।

- Ans
- 1. अंतरराज्यीय बैंकिंग
 - 2. एकल प्रविष्टि प्रणाली
 - 3. इंटरनेट बैंकिंग
 - 4. इंटर कॉर्पोरेट बैंकिंग

Question ID : 264330115317

Status : Answered

Chosen Option : 3

Q.8 भारत में दंड प्रक्रिया संहिता वर्ष _____ में अधिनियमित की गई थी।

- Ans
- 1. 1977
 - 2. 1975
 - 3. 1971
 - 4. 1973

Question ID : 264330116209
Status : Not Answered
Chosen Option : --

Q.9 जलियांवाला बाग हत्याकांड के लिए कौन जिम्मेदार था?

- Ans
- 1. सत्य पाल
 - 2. जनरल हंटर्स
 - 3. जनरल डायर
 - 4. जनरल पैटर्स

Question ID : 264330115698
Status : Answered
Chosen Option : 3

Q.10 विनिर्माण क्षेत्रों को सामान्य और आर्थिक विकास का/की _____ माना जाता/मानी जाती है।

- Ans
- 1. रीढ़ की हड्डी
 - 2. घुटना
 - 3. हाथ
 - 4. पैर

Question ID : 264330115564
Status : Answered
Chosen Option : 1

Q.11 IPR-1956 ने _____ पंचवर्षीय योजना की नींव रखी।

- Ans
- 1. चौथी
 - 2. दूसरी
 - 3. छठवीं
 - 4. दसवीं

Question ID : 26433054784
Status : Answered
Chosen Option : 2

Q.12 निम्नलिखित में से किस राज्य में पहली बार खेलो इंडिया यूनिवर्सिटी गेम्स का आयोजन किया गया था?

- Ans
- 1. ओडिशा
 - 2. असम
 - 3. महाराष्ट्र
 - 4. पंजाब

Question ID : 264330116277
Status : Answered
Chosen Option : 2

Q.13 संसदीय प्रक्रिया में कोरम को _____ के रूप में समझा जा सकता है।

- Ans
- 1. सदन की कार्य प्रणाली को सुचारु रूप से चलाने के लिए सदस्यों की न्यूनतम संख्या
 - 2. लोकसभा के कुल सदस्य
 - 3. राज्यसभा में उपस्थित मंत्रियों की कुल संख्या
 - 4. सदन के सदस्यों की कुल संख्या

Question ID : 26433074911
Status : Answered
Chosen Option : 1

Q.14 संगम काल के दौरान तमिल क्षेत्र में, भूमिहीन मजदूरों जिनमें दास भी शामिल होते थे, को _____ के रूप में जाना जाता था।

- Ans
- 1. वेल्लालार और उझावार
 - 2. कडैसियार और उझावार
 - 3. वेल्लालार और अदिमई
 - 4. कडैसियार और अदिमई

Question ID : 26433085226
Status : Not Answered
Chosen Option : --

Q.15 भारत में, हरित क्रांति का उद्देश्य _____ था।

- Ans
- 1. राष्ट्रीय सशस्त्र बल सुरक्षा
 - 2. अन्य देशों पर निर्भरता
 - 3. राष्ट्रीय खाद्य सुरक्षा
 - 4. ओज़ोन रिक्तीकरण

Question ID : 264330115427
Status : Answered
Chosen Option : 3

Q.16 निम्नलिखित में से कौन-सा समीकरण गैस के एक मोल के लिए सही है?

- Ans
- 1. $V_1/ V_2 = T_1^2/ T_2^2$ (स्थिर दाब पर)
 - 2. $V_1/ V_2 = \sqrt{T_1/ T_2}$ (स्थिर दाब पर)
 - 3. $V_1/ V_2 = T_1/ T_2$ (स्थिर दाब पर)
 - 4. $p_1/ V_1 = p_1/ V_2$ (स्थिर ताप पर)

Question ID : 26433066473

Status : Not Answered

Chosen Option : --

Q.17 गुरु बिपिन सिंह ने किस नृत्य शैली में विभिन्न पुरस्कार जीते हैं?

- Ans
- 1. मणिपुरी
 - 2. कथक
 - 3. कथकली
 - 4. लावणी

Question ID : 264330115863

Status : Not Answered

Chosen Option : --

Q.18 'शूटिंग गार्ड' शब्द का उपयोग निम्नलिखित में से किस खेल/क्रीड़ा में किया जाता है?

- Ans
- 1. वॉलीबॉल
 - 2. टेनिस
 - 3. बास्केटबॉल
 - 4. टेबल टेनिस

Question ID : 26433071573

Status : Not Answered

Chosen Option : --

Q.19 नर्मदा नदी निम्नलिखित में से किस स्थान से निकलती है?

- Ans
- 1. नासिक
 - 2. सतपुड़ा की श्रृंखलाएँ
 - 3. महाबलेश्वर
 - 4. अमरकंटक पहाड़ी

Question ID : 264330116000

Status : Answered

Chosen Option : 4

Q.20 2022 में हुए चुनाव के बाद पंजाब के मुख्यमंत्री कौन बने?

- Ans
- 1. अमरिंदर सिंह
 - 2. चरणजीत सिंह चन्नी
 - 3. प्रकाश सिंह बादल
 - 4. भागवंत मान

Question ID : 264330115020

Status : Answered

Chosen Option : 4

Section : Part-C-Elementary Mathematics

Q.1 3, 5, 10 और x का औसत 5 है। 8, 12, 15, x और y का औसत 9 है। x और y का क्रमशः मान _____ है।

- Ans
- 1. 3 और 9
 - 2. 2 और 3
 - 3. 3 और 8
 - 4. 2 और 8

Question ID : 26433082643

Status : Answered

Chosen Option : 4

Q.2 3 cm आधार त्रिज्या और 4 cm ऊंचाई के एक ठोस धातु बेलन को 2 cm ऊंचाई और 1 cm त्रिज्या वाले शंकु बनाने के लिए पिघलाया जाता है। निर्मित शंकुओं की संख्या कितनी है?

- Ans
- 1. 54
 - 2. 64
 - 3. 56
 - 4. 58

Question ID : 26433076089

Status : Not Answered

Chosen Option : --

Q.3 Rs.1,000 की धनराशि के लिए 10% वार्षिक चक्रवृद्धि ब्याज पर 3 वर्ष में प्राप्त मिश्रधन क्या होगा, यदि ब्याज वार्षिक रूप से चक्रवृद्धि हो?

- Ans
- 1. Rs.3,122
 - 2. Rs.2,311
 - 3. Rs.1,331
 - 4. Rs.4,121

Question ID : 26433064917

Status : Answered

Chosen Option : 3

Q.4 एक बेईमान विक्रेता चावल को Rs.24/ kg पर बेचता है, जिसे उसने Rs.20/ kg पर खरीदा है, और वह 1 kg के बजाय 800 g देता है। उसका वास्तविक लाभ प्रतिशत क्या है?

- Ans
- 1. 43.75%
 - 2. 40%
 - 3. 56.25%
 - 4. 50%

Question ID : 26433072968

Status : Answered

Chosen Option : 1

Q.5 ₹9 प्रति kg की कीमत वाले 20 kg चावल को ₹10 प्रति kg की कीमत वाले 25 kg चावल के साथ मिलाया गया है। 1 kg मिश्रित चावल की औसत कीमत क्या है? (एक दशमलव स्थान तक पूर्णांकित)

- Ans
- 1. ₹9.5
 - 2. ₹7.2
 - 3. ₹6.3
 - 4. ₹8.5

Question ID : 26433079999

Status : Answered

Chosen Option : 1

Q.6 1750 के 20% के 10% का मान क्या होगा?

- Ans
- 1. 30
 - 2. 35
 - 3. 32
 - 4. 28

Question ID : 26433075646

Status : Answered

Chosen Option : 1

Q.7 2.16, 2.44 और 3.36 का सबसे बड़ा उभयनिष्ठ भाजक (महत्तम समापवर्तक) ज्ञात कीजिए।

- Ans
- 1. 0.03
 - 2. 0.05
 - 3. 0.02
 - 4. 0.04

Question ID : 26433091510

Status : Not Attempted and Marked For Review

Chosen Option : --

Q.8 एक नाव स्थिर जल में 10 km/h की चाल से चल सकती है। यदि धारा की चाल 2 km/h है, तो धारा की दिशा में 72 km जाने में नाव द्वारा लिया गया समय ज्ञात करें।

- Ans
- 1. 6 घंटा
 - 2. 7 घंटा
 - 3. 5 घंटा
 - 4. 4 घंटा

Question ID : 26433080133
Status : Answered
Chosen Option : 1

Q.9 एक डीलर अपनी वस्तुओं को क्रय मूल्य पर बेचने का खुलेआम दावा करता है, लेकिन वह एक किलोग्राम वाले बाट के स्थान पर 735 ग्राम वाले गलत बाट को व्यवहार में लाता है। डीलर का लाभ प्रतिशत (दशमलव के दो स्थान तक सही) _____ है।

- Ans
- 1. 38.15%
 - 2. 36.05%
 - 3. 40.05%
 - 4. 35.25%

Question ID : 26433074924
Status : Answered
Chosen Option : 2

Q.10 यदि $48, x^2$ और 27 समानुपात में हों, तो x का मान क्या है?

- Ans
- 1. 36
 - 2. 16
 - 3. 6
 - 4. 4

Question ID : 26433075437
Status : Answered
Chosen Option : 3

Q.11 A और B एक काम क्रमशः 60 दिन और 75 दिन में पूरा कर सकते हैं। यदि वे एक साथ कार्य करते हैं तो काम पूरा करने में कितने दिन लगेंगे?

- Ans
- 1. 35.5
 - 2. 35
 - 3. $33\frac{1}{3}$
 - 4. 36

Question ID : 26433079890
Status : Answered
Chosen Option : 3

Q.12 अमन, रमन और यश मिलकर एक कार्य को 29 दिनों में पूरा कर सकते हैं। रमन और यश मिलकर समान कार्य को 58 दिनों में पूरा कर सकते हैं। अमन, रमन और यश मिलकर एक साथ कार्य शुरू करते हैं लेकिन अमन 15 दिनों के बाद कार्य छोड़ देता है। दिनों की संख्या ज्ञात करें जिसमें रमन और यश ने शेष कार्य को पूरा किया।

- Ans
- 1. 28 दिन
 - 2. 54 दिन
 - 3. 21 दिन
 - 4. 50 दिन

Question ID : 264330116893

Status : Not Attempted and Marked For Review

Chosen Option : --

Q.13 एक दुकानदार एक वस्तु पर 20% की छूट देता है। ₹600 अंकित मूल्य वाली वस्तु का विक्रय मूल्य क्या होगा?

- Ans
- 1. ₹400
 - 2. ₹420
 - 3. ₹450
 - 4. ₹480

Question ID : 26433087363

Status : Answered

Chosen Option : 4

Q.14 आम रस के एक कार्टन में 500 ml होता है। एक विशेष ऑफर के कार्टन में अतिरिक्त 15 प्रतिशत होता है। विशेष ऑफर कार्टन में कितना आम रस है?

- Ans
- 1. 640 ml
 - 2. 590 ml
 - 3. 545 ml
 - 4. 575 ml

Question ID : 264330116813

Status : Answered

Chosen Option : 4

Q.15 दो नाव A और B एक दूसरे की ओर 272 km की दूरी पर स्थित दो स्थानों से चलना आरंभ होती हैं। शांत जल में नाव A और B की चाल क्रमशः 32 km/h और 36 km/h है। यदि A धारा के दिशा में चलती है और B धारा के विपरीत दिशा में चलती है, तो वे एक-दूसरे से कितने समय में मिलेंगी?

- Ans
- 1. 5 घंटे
 - 2. 3 घंटे
 - 3. 6 घंटे
 - 4. 4 घंटे

Question ID : 26433075520

Status : Not Answered

Chosen Option : --

Q.16 किसी वस्तु का सूची मूल्य निर्धारित कीजिए यदि उस वस्तु पर 10% की छूट ₹100 होती है।

- Ans
- 1. ₹1,500
 - 2. ₹1,200
 - 3. ₹800
 - 4. ₹1,000

Question ID : 26433061359

Status : Answered

Chosen Option : 4

Q.17 3 वर्षों में ₹75,000 का वार्षिक चक्रवृद्धि आधार पर गणना करने पर चक्रवृद्धि ब्याज कितना होगा, यदि ब्याज दर पहले वर्ष के लिए 5% और दूसरे वर्ष के लिए 6% तथा तीसरे वर्ष के लिए 8% हो?

- Ans
- 1. ₹15,153
 - 2. ₹15,150
 - 3. ₹15,160
 - 4. ₹15,260

Question ID : 26433080193

Status : Not Answered

Chosen Option : --

Q.18 राकेश को 10 cm ऊँचाई और 10 cm त्रिज्या वाले एक बेलनाकार कंटेनर को 5 cm त्रिज्या के एक अर्धगोलाकार कटोरे से पानी भरना है। टैंक को पूरी तरह से पानी से भरने के लिए उसे अर्धगोलाकार कटोरे से बेलनाकार कंटेनर में कितनी बार पानी डालना होगा?

- Ans
- 1. 15
 - 2. 12
 - 3. 16
 - 4. 19

Question ID : 26433075329

Status : Not Answered

Chosen Option : --

Q.19

$\left[3\frac{1}{2} \div \left\{1\frac{1}{4} - \left(\frac{1}{2} + \frac{1}{3}\right)\right\} + \frac{7}{5}\right]$ का मान ज्ञात कीजिए।

Ans

1. 5

2. $9\frac{4}{5}$

3. $8\frac{5}{6}$

4. 7

Question ID : 26433074446

Status : Not Answered

Chosen Option : --

Q.20 दो संख्याएँ 2 : 3 के अनुपात में हैं। यदि प्रत्येक संख्या में से 7 घटाया जाए, तो नई संख्याएँ 7 : 11 के अनुपात में होती हैं। छोटी संख्या कौन-सी है?

Ans 1. 45

2. 65

3. 54

4. 56

Question ID : 26433076375

Status : Not Answered

Chosen Option : --

Section : Part-D-English

Q.1 Select the most appropriate ANTONYM of the given word.

Smart

Ans 1. Speedy

2. Elegant

3. Shabby

4. Leisurely

Question ID : 26433084686

Status : Not Answered

Chosen Option : --

Q.2 Parts of the following sentence have been given as options. One of them may contain an error. Select the part that contains the error from the given options. If you don't find any error, mark 'No error' as your answer.

How foolish I was to have believe that young woman!

- Ans
- 1. How foolish I was
 - 2. to have believe
 - 3. that young woman
 - 4. No error

Question ID : 26433090483
Status : Not Answered
Chosen Option : --

Q.3 Select the correctly spelt word.

- Ans
- 1. Entrepreneur
 - 2. Entreprineyour
 - 3. Entrepreneur
 - 4. Entripreiniur

Question ID : 26433086496
Status : Not Answered
Chosen Option : --

Q.4 Select the most appropriate synonym of the word given in brackets to fill in the blank.

Some women have reached the _____ (peak) in their profession.

- Ans
- 1. crossroads
 - 2. sky
 - 3. finale
 - 4. zenith

Question ID : 26433070469
Status : Not Answered
Chosen Option : --

Q.5 Select the most appropriate meaning of the given idiom.

Up a creek without a paddle

- Ans
- 1. In a troublesome and serious situation
 - 2. In a satisfied and calm atmosphere
 - 3. In a partially complete construction work
 - 4. In an unfinished mission

Question ID : 26433073481
Status : Not Answered
Chosen Option : --

Q.6 Select the INCORRECTLY spelt word.

- Ans
- 1. Quickly
 - 2. Bravely
 - 3. Slowly
 - 4. Hapily

Question ID : 26433071818

Status : Not Answered

Chosen Option : --

Q.7 Select the most appropriate meaning of the underlined idiom in the given sentence.

An ox on their tongue was the only way officers would have allowed him to carry on the unlawful activities he was involved in.

- Ans
- 1. Bribed to remain silent
 - 2. Being frank
 - 3. Telling lies
 - 4. Getting no appreciation

Question ID : 26433072091

Status : Not Answered

Chosen Option : --

Q.8 Select the most appropriate ANTONYM of the underlined word in the given sentence.

She is found to pass derogatory remarks to others.

- Ans
- 1. critical
 - 2. cunning
 - 3. sarcastic
 - 4. appreciative

Question ID : 26433092094

Status : Not Answered

Chosen Option : --

Q.9 Select the most appropriate option that can substitute the underlined segment in the given sentence.

The marksheets of many students have been withheld by the university.

- Ans
- 1. kept back
 - 2. handed out
 - 3. gone through
 - 4. given away

Question ID : 26433099872

Status : Not Answered

Chosen Option : --

Q.10 Select the most appropriate option that can substitute the underlined segment in the given sentence. If there is no need to substitute it, select 'No substitution'.

You cannot walk throughout deserts by bare feet or they'll get burned.

- Ans 1. No substitution
 2. through deserts on
 3. through deserts by
 4. though deserts on

Question ID : 26433088910
Status : Not Answered
Chosen Option : --

Q.11 Select the most appropriate synonym of the given word.

Obliterate

- Ans 1. Assist
 2. Erase
 3. Create
 4. Construct

Question ID : 26433088203
Status : Not Answered
Chosen Option : --

Q.12 Select the most appropriate ANTONYM of the given word.

Flexible

- Ans 1. Staunch
 2. Snobbish
 3. Hysterical
 4. Obstinate

Question ID : 26433091822
Status : Not Answered
Chosen Option : --

Q.13 Select the most appropriate synonym of the word given in brackets to fill in the blank.

I suppose it is a _____ (fair) solution to the problem at hand.

- Ans 1. exhibition
 2. pale
 3. bright
 4. reasonable

Question ID : 26433072110
Status : Not Answered
Chosen Option : --

Q.14 Select the most appropriate option that can substitute the underlined segment in the given sentence.

His wife has a bad habit for accusing him for others' mistakes too.

- Ans
- 1. habit in accusing him
 - 2. habit of accusing him
 - 3. habit at accusing him
 - 4. habit on accusing him

Question ID : 26433091966

Status : Not Answered

Chosen Option : --

Q.15 Select the most appropriate synonym of the given word.

Hypocrisy

- Ans
- 1. Inaccuracy
 - 2. Trickery
 - 3. Honesty
 - 4. Sincerity

Question ID : 26433074049

Status : Not Answered

Chosen Option : --

Comprehension:

In the following passage, some words have been deleted. Read the passage carefully and select the most appropriate option to fill in each blank.

Road rage is a common (1)_____ in most parts of the world. Although there are a few countries where the drivers involved just stay stationed (2)_____ the police arrive, without getting into any argument, it is not the case in many other countries. There have been instances where people (3)_____ killed due to road rage because of the collision or even a minor scratch to one or two of the vehicles involved. Although the insurance companies are doing their best to (4)_____ for the losses, the number of instances of road rage continues to (5)_____.

SubQuestion No : 16

Q.16 Select the most appropriate option to fill in blank number 1.

- Ans
- 1. structure
 - 2. dominion
 - 3. phenomenon
 - 4. pavilion

Question ID : 26433091794

Status : Not Answered

Chosen Option : --

Comprehension:

In the following passage, some words have been deleted. Read the passage carefully and select the most appropriate option to fill in each blank.

Road rage is a common (1)_____ in most parts of the world. Although there are a few countries where the drivers involved just stay stationed (2)_____ the police arrive, without getting into any argument, it is not the case in many other countries. There have been instances where people (3)_____ killed due to road rage because of the collision or even a minor scratch to one or two of the vehicles involved. Although the insurance companies are doing their best to (4)_____ for the losses, the number of instances of road rage continues to (5)_____.

SubQuestion No : 17

Q.17 Select the most appropriate option to fill in blank number 2.

- Ans
- 1. along
 - 2. besides
 - 3. till
 - 4. for

Question ID : 26433091795

Status : Not Answered

Chosen Option : --

Comprehension:

In the following passage, some words have been deleted. Read the passage carefully and select the most appropriate option to fill in each blank.

Road rage is a common (1)_____ in most parts of the world. Although there are a few countries where the drivers involved just stay stationed (2)_____ the police arrive, without getting into any argument, it is not the case in many other countries. There have been instances where people (3)_____ killed due to road rage because of the collision or even a minor scratch to one or two of the vehicles involved. Although the insurance companies are doing their best to (4)_____ for the losses, the number of instances of road rage continues to (5)_____.

SubQuestion No : 18

Q.18 Select the most appropriate option to fill in blank number 3.

- Ans
- 1. where
 - 2. are
 - 3. would
 - 4. were

Question ID : 26433091796

Status : Not Answered

Chosen Option : --

Comprehension:

In the following passage, some words have been deleted. Read the passage carefully and select the most appropriate option to fill in each blank.

Road rage is a common (1)_____ in most parts of the world. Although there are a few countries where the drivers involved just stay stationed (2)_____ the police arrive, without getting into any argument, it is not the case in many other countries. There have been instances where people (3)_____ killed due to road rage because of the collision or even a minor scratch to one or two of the vehicles involved. Although the insurance companies are doing their best to (4)_____ for the losses, the number of instances of road rage continues to (5)_____.

SubQuestion No : 19

Q.19 Select the most appropriate option to fill in blank number 4.

Ans 1. compensate

2. compete

3. infiltrate

4. hesitate

Question ID : 26433091797

Status : Not Answered

Chosen Option : --

Comprehension:

In the following passage, some words have been deleted. Read the passage carefully and select the most appropriate option to fill in each blank.

Road rage is a common (1)_____ in most parts of the world. Although there are a few countries where the drivers involved just stay stationed (2)_____ the police arrive, without getting into any argument, it is not the case in many other countries. There have been instances where people (3)_____ killed due to road rage because of the collision or even a minor scratch to one or two of the vehicles involved. Although the insurance companies are doing their best to (4)_____ for the losses, the number of instances of road rage continues to (5)_____.

SubQuestion No : 20

Q.20 Select the most appropriate option to fill in blank number 5.

Ans 1. oscillate

2. escalate

3. ruminare

4. weaken

Question ID : 26433091798

Status : Not Answered

Chosen Option : --

Q.1 वर्तनी की दृष्टि से अशुद्ध वाक्य का चयन कीजिए-

- Ans
- 1. मैं आपसे असहमत नहीं हूँ।
 - 2. माउंट आबू के मंदिर देखने लायक हैं।
 - 3. मेरे पास चार रूपए से अधिक नहीं हैं।
 - 4. यह प्रस्ताव सब को स्वीकार्य है।

Question ID : 26433062889

Status : Answered

Chosen Option : 1

Q.2 निम्न में से किस वाक्य में 'अधम' के सही पर्यायवाची शब्द का प्रयोग हुआ है?

- Ans
- 1. वह बहुत नीच व्यक्ति है।
 - 2. मोहन अत्यंत विद्वान है।
 - 3. यह रास्ता नीचे की ओर जाता है।
 - 4. राकेश सदैव अधर्म का पक्ष लेता है।

Question ID : 26433067011

Status : Answered

Chosen Option : 1

Q.3 निम्नलिखित शब्दों में से कौन सा शब्द द्रव्यवाचक संज्ञा शब्द है?

- Ans
- 1. कोयला
 - 2. साहस
 - 3. सूरज
 - 4. विद्यार्थी

Question ID : 26433085026

Status : Not Answered

Chosen Option : --

Q.4 'जिसमें दया की भावना न हो' वाक्यांश के लिए उचित शब्द क्या होगा?

- Ans
- 1. अभय
 - 2. निर्जीव
 - 3. निर्भय
 - 4. निर्दय

Question ID : 26433067066

Status : Answered

Chosen Option : 4

Q.5 निम्नलिखित विकल्पों में से 'जो जाना न जा सके' वाक्यांश के लिए एक सार्थक शब्द क्या होगा?

- Ans
- 1. सर्वज्ञ
 - 2. अनन्य
 - 3. अज्ञेय
 - 4. प्रमेय

Question ID : 26433062472

Status : Not Answered

Chosen Option : --

Q.6 निम्नलिखित वाक्य में रेखांकित खंड के स्थान पर प्रयुक्त होने वाले सबसे उपयुक्त विकल्प का चयन कीजिए।

अंशु ने अलमारी से पुस्तक निकाला।

- Ans
- 1. निकाल
 - 2. निकाले
 - 3. निकाली
 - 4. निकली

Question ID : 26433079568

Status : Answered

Chosen Option : 3

Q.7 'अव्यवस्था' के लिए विलोम शब्द होगा-

- Ans
- 1. गड़बड़
 - 2. कुव्यवस्था
 - 3. सुव्यवस्था
 - 4. अराजकता

Question ID : 26433085077

Status : Answered

Chosen Option : 3

Q.8 वर्तनी की दृष्टि से अशुद्ध वाक्य का चयन कीजिए-

- Ans
- 1. यद्यपि शेर घायल हो गया तथापि वह मारा नहीं गया।
 - 2. यदि दवा लगे तो बूखार कम हो जाएगा।
 - 3. मोहन एक पुस्तक चाहता था और वह उसे मिल गई।
 - 4. मनोहर या तो स्वयं आयेगा या तार भेजेगा।

Question ID : 26433062897

Status : Not Answered

Chosen Option : --

Q.9 चाँद की अपनी रौशनी नहीं होती अपितु वह _____ से प्रकाश पाता है।
'सूरज' के पर्याय से उपरोक्त वाक्य के रिक्त स्थान की पूर्ति कीजिए।

- Ans
- 1. ललित
 - 2. भूधर
 - 3. आदित्य
 - 4. हिमकर

Question ID : 26433084987
Status : Answered
Chosen Option : 3

Q.10 'जो भू के गर्भ का हाल जानता हो' वाक्यांश के लिए इनमें से सही शब्द क्या है?

- Ans
- 1. भूगर्भवेत्ता
 - 2. ब्रह्मज्ञानी
 - 3. परमेश्वर
 - 4. परमज्ञानी

Question ID : 26433070149
Status : Answered
Chosen Option : 1

Q.11 निम्नलिखित शब्दों में से कौन सा शब्द क्रिया विशेषण शब्द नहीं है?

- Ans
- 1. कल
 - 2. क्या
 - 3. जब
 - 4. कब

Question ID : 26433085045
Status : Answered
Chosen Option : 1

Q.12 दिए गए मुहावरे में रेखांकित अंश के स्थान पर सबसे उपयुक्त विकल्प कौन-सा होगा?
'करत करत अभ्यास के आदमी होत सुजान'

- Ans
- 1. राजा
 - 2. जड़मति
 - 3. बुद्धिमति
 - 4. मनुष्य

Question ID : 26433066741
Status : Answered
Chosen Option : 4

Q.13 'हथेली पर सरसों जमाना' मुहावरे का सही अर्थ है -

- Ans
- 1. अच्छी फ़सल होना
 - 2. कम समय में कठिन कार्य करने की कोशिश करना
 - 3. दूसरे की भलाई के लिए खुद को मुश्किल में डालना
 - 4. कृषि करना

Question ID : 26433065929

Status : Answered

Chosen Option : 2

Q.14 निम्न वाक्य में रेखांकित शब्द के विलोम से रिक्त स्थान की पूर्ति कीजिए।
'जब आदि से सब कुछ अच्छा हो तो _____ भी भला ही होता है।'

- Ans
- 1. परिणाम
 - 2. अंत
 - 3. भविष्य
 - 4. आरम्भ

Question ID : 26433085001

Status : Answered

Chosen Option : 1

Q.15 नीचे दिए गए वाक्य में रेखांकित अंश के स्थान पर सबसे उपयुक्त विकल्प कौन-सा होगा?
मेरे को दिल्ली जाना है।

- Ans
- 1. तेरे को
 - 2. इसका
 - 3. इसकी
 - 4. मुझे

Question ID : 26433066716

Status : Answered

Chosen Option : 4

Comprehension:

निम्न गद्यांश के आधार पर प्रश्न संख्या 1-5 के उत्तर दीजिए।

निबंध शब्द अंग्रेजी के 'Essay' का हिंदी पर्याय है। जिसका शाब्दिक अर्थ है- किसी विषय पर विचारों को सूत्रबद्ध करना, एकत्र करना, संचित कर संगठित करना आदि। विचार प्रधान रचना ही निबंध का अर्थ वहन करने में सक्षम कही जा सकती है। विषय का तार्किक विश्लेषण, रोचकता, सरसता, पाठकों से आत्मीयता, कलात्मक वैशिष्ट्य निबंध के प्रमुख गुण हैं। निबंध विधा का विकास आधुनिक युग में हुआ है। संस्कृत साहित्य में निबंध बौद्धिक अभिव्यक्ति का माध्यम भर थे। निजी अनुभूति, सहजता, स्वच्छन्दता, प्रभावान्विति जैसे गुणों का इनमें अभाव था। आधुनिक युग का निबंध साहित्य इससे सर्वथा भिन्न है। किसी भी विषय पर व्यक्तिगत विचारों को अभिव्यक्ति प्रदान करते हुए निबंधकार स्वच्छंद चिंतन द्वारा विषय के प्रतिपादन में नवीनता लाता है। किसी भी विषय पर निबंध रचना की जा सकती है। यथा- सुधारात्मक प्रवृत्ति प्रधान, समीक्षात्मक, भाव प्रवण, राष्ट्रीय चेतना प्रधान, मनोविकारों संबंधी। सुगठित कलेवर में श्रृंखलाबद्ध ढंग से विवेचन कर निबंधकार श्रेष्ठ निबंधों की रचना कर सकता है। संस्कृत की इस उक्ति कि- "गद्य कवियों की कसौटी है।" पर आचार्य रामचंद्र शुक्ल का यह कथन- "कि यदि पद्य कवियों की कसौटी तो निबंधकार गद्य की कसौटी है।" निबंध कला का महत्व दर्शाने के लिए पर्याप्त है।

SubQuestion No : 16

Q.16 गद्यांश के अनुसार किस प्रकार की रचना निबंध का अर्थ वहन करने में सक्षम है?

Ans 1. राष्ट्रीय रचना

2. विचार प्रधान रचना

3. विशेष रचना

4. स्वच्छंद

Question ID : 26433080960

Status : Not Answered

Chosen Option : --

Comprehension:

निम्न गद्यांश के आधार पर प्रश्न संख्या 1-5 के उत्तर दीजिए।

निबंध शब्द अंग्रेजी के 'Essay' का हिंदी पर्याय है। जिसका शाब्दिक अर्थ है- किसी विषय पर विचारों को सूत्रबद्ध करना, एकत्र करना, संचित कर संगठित करना आदि। विचार प्रधान रचना ही निबंध का अर्थ वहन करने में सक्षम कही जा सकती है। विषय का तार्किक विश्लेषण, रोचकता, सरसता, पाठकों से आत्मीयता, कलात्मक वैशिष्ट्य निबंध के प्रमुख गुण हैं। निबंध विधा का विकास आधुनिक युग में हुआ है। संस्कृत साहित्य में निबंध बौद्धिक अभिव्यक्ति का माध्यम भर थे। निजी अनुभूति, सहजता, स्वच्छन्दता, प्रभावान्विति जैसे गुणों का इनमें अभाव था। आधुनिक युग का निबंध साहित्य इससे सर्वथा भिन्न है। किसी भी विषय पर व्यक्तिगत विचारों को अभिव्यक्ति प्रदान करते हुए निबंधकार स्वच्छंद चिंतन द्वारा विषय के प्रतिपादन में नवीनता लाता है। किसी भी विषय पर निबंध रचना की जा सकती है। यथा- सुधारात्मक प्रवृत्ति प्रधान, समीक्षात्मक, भाव प्रवण, राष्ट्रीय चेतना प्रधान, मनोविकारों संबंधी। सुगठित कलेवर में श्रृंखलाबद्ध ढंग से विवेचन कर निबंधकार श्रेष्ठ निबंधों की रचना कर सकता है। संस्कृत की इस उक्ति कि- "गद्य कवियों की कसौटी है।" पर आचार्य रामचंद्र शुक्ल का यह कथन- "कि यदि पद्य कवियों की कसौटी तो निबंधकार गद्य की कसौटी है।" निबंध कला का महत्व दर्शाने के लिए पर्याप्त है।

SubQuestion No : 17

Q.17 निम्नलिखित में से क्या निबंध का प्रमुख गुण नहीं है?

Ans 1. विषय का तार्किक विश्लेषण

2. कलात्मक वैशिष्ट्य

3. कवि की कलात्मकता

4. पाठकों से आत्मीयता

Question ID : 26433080961

Status : Answered

Chosen Option : 3

Comprehension:

निम्न गद्यांश के आधार पर प्रश्न संख्या 1-5 के उत्तर दीजिए।
निबंध शब्द अंग्रेजी के 'Essay' का हिंदी पर्याय है। जिसका शाब्दिक अर्थ है- किसी विषय पर विचारों को सूत्रबद्ध करना, एकत्र करना, संचित कर संगठित करना आदि। विचार प्रधान रचना ही निबंध का अर्थ वहन करने में सक्षम कही जा सकती है। विषय का तार्किक विश्लेषण, रोचकता, सरसता, पाठकों से आत्मीयता, कलात्मक वैशिष्ट्य निबंध के प्रमुख गुण हैं। निबंध विधा का विकास आधुनिक युग में हुआ है। संस्कृत साहित्य में निबंध बौद्धिक अभिव्यक्ति का माध्यम भर थे। निजी अनुभूति, सहजता, स्वच्छन्दता, प्रभावान्विति जैसे गुणों का इनमें अभाव था। आधुनिक युग का निबंध साहित्य इससे सर्वथा भिन्न है। किसी भी विषय पर व्यक्तिगत विचारों को अभिव्यक्ति प्रदान करते हुए निबंधकार स्वच्छंद चिंतन द्वारा विषय के प्रतिपादन में नवीनता लाता है। किसी भी विषय पर निबंध रचना की जा सकती है। यथा- सुधारात्मक प्रवृत्ति प्रधान, समीक्षात्मक, भाव प्रवण, राष्ट्रीय चेतना प्रधान, मनोविकारों संबंधी। सुगठित कलेवर में श्रृंखलाबद्ध ढंग से विवेचन कर निबंधकार श्रेष्ठ निबंधों की रचना कर सकता है। संस्कृत की इस उक्ति कि- "गद्य कवियों की कसौटी है।" पर आचार्य रामचंद्र शुक्ल का यह कथन- "कि यदि पद्य कवियों की कसौटी तो निबंधकार गद्य की कसौटी है।" निबंध कला का महत्व दर्शाने के लिए पर्याप्त है।

SubQuestion No : 18

Q.18 गद्यांश के अनुसार विषय में नवीनता किस प्रकार से आती है?

- Ans
- 1. निरन्तरता से
 - 2. स्वच्छंद चिन्तन से
 - 3. नैतिकता से
 - 4. आधुनिकता से

Question ID : 26433080962

Status : Answered

Chosen Option : 4

Comprehension:

निम्न गद्यांश के आधार पर प्रश्न संख्या 1-5 के उत्तर दीजिए।
निबंध शब्द अंग्रेजी के 'Essay' का हिंदी पर्याय है। जिसका शाब्दिक अर्थ है- किसी विषय पर विचारों को सूत्रबद्ध करना, एकत्र करना, संचित कर संगठित करना आदि। विचार प्रधान रचना ही निबंध का अर्थ वहन करने में सक्षम कही जा सकती है। विषय का तार्किक विश्लेषण, रोचकता, सरसता, पाठकों से आत्मीयता, कलात्मक वैशिष्ट्य निबंध के प्रमुख गुण हैं। निबंध विधा का विकास आधुनिक युग में हुआ है। संस्कृत साहित्य में निबंध बौद्धिक अभिव्यक्ति का माध्यम भर थे। निजी अनुभूति, सहजता, स्वच्छन्दता, प्रभावान्विति जैसे गुणों का इनमें अभाव था। आधुनिक युग का निबंध साहित्य इससे सर्वथा भिन्न है। किसी भी विषय पर व्यक्तिगत विचारों को अभिव्यक्ति प्रदान करते हुए निबंधकार स्वच्छंद चिंतन द्वारा विषय के प्रतिपादन में नवीनता लाता है। किसी भी विषय पर निबंध रचना की जा सकती है। यथा- सुधारात्मक प्रवृत्ति प्रधान, समीक्षात्मक, भाव प्रवण, राष्ट्रीय चेतना प्रधान, मनोविकारों संबंधी। सुगठित कलेवर में श्रृंखलाबद्ध ढंग से विवेचन कर निबंधकार श्रेष्ठ निबंधों की रचना कर सकता है। संस्कृत की इस उक्ति कि- "गद्य कवियों की कसौटी है।" पर आचार्य रामचंद्र शुक्ल का यह कथन- "कि यदि पद्य कवियों की कसौटी तो निबंधकार गद्य की कसौटी है।" निबंध कला का महत्व दर्शाने के लिए पर्याप्त है।

SubQuestion No : 19

Q.19 आचार्य रामचंद्र शुक्ल ने गद्यकार की कसौटी किसे माना है?

- Ans
- 1. नाटक
 - 2. निबंध
 - 3. कहानी
 - 4. एकांकी

Question ID : 26433080963

Status : Answered

Chosen Option : 2

Comprehension:

निम्न गद्यांश के आधार पर प्रश्न संख्या 1-5 के उत्तर दीजिए।

निबंध शब्द अंग्रेजी के 'Essay' का हिंदी पर्याय है। जिसका शाब्दिक अर्थ है- किसी विषय पर विचारों को सूत्रबद्ध करना, एकत्र करना, संचित कर संगठित करना आदि। विचार प्रधान रचना ही निबंध का अर्थ वहन करने में सक्षम कही जा सकती है। विषय का तार्किक विश्लेषण, रोचकता, सरसता, पाठकों से आत्मीयता, कलात्मक वैशिष्ट्य निबंध के प्रमुख गुण हैं। निबंध विधा का विकास आधुनिक युग में हुआ है। संस्कृत साहित्य में निबंध बौद्धिक अभिव्यक्ति का माध्यम भर थे। निजी अनुभूति, सहजता, स्वच्छन्दता, प्रभावान्विति जैसे गुणों का इनमें अभाव था। आधुनिक युग का निबंध साहित्य इससे सर्वथा भिन्न है। किसी भी विषय पर व्यक्तिगत विचारों को अभिव्यक्ति प्रदान करते हुए निबंधकार स्वच्छंद चिंतन द्वारा विषय के प्रतिपादन में नवीनता लाता है। किसी भी विषय पर निबंध रचना की जा सकती है। यथा- सुधारात्मक प्रवृत्ति प्रधान, समीक्षात्मक, भाव प्रवण, राष्ट्रीय चेतना प्रधान, मनोविकारों संबंधी। सुगठित कलेवर में श्रृंखलाबद्ध ढंग से विवेचन कर निबंधकार श्रेष्ठ निबंधों की रचना कर सकता है। संस्कृत की इस उक्ति कि- "गद्य कवियों की कसौटी है।" पर आचार्य रामचंद्र शुक्ल का यह कथन- "कि यदि पद्य कवियों की कसौटी तो निबंधकार गद्य की कसौटी है।" निबंध कला का महत्व दर्शाने के लिए पर्याप्त है।

SubQuestion No : 20

Q.20 वैशिष्ट्य शब्द का समानार्थी होगा-

- Ans
- 1. भिन्नता
 - 2. बनावट
 - 3. विशेषता
 - 4. विषय

Question ID : 26433080964

Status : Answered

Chosen Option : 3

KD Job Updates

Constable GD in CAPFs SSF Rifleman GD in Assam Rifles and Sepoy in NCB Examination 2022

Roll Number	KD Job Updates
Candidate Name	KD Job Updates
Venue Name	IPS Digital Centre
Exam Date	13/02/2023
Exam Time	5:15 PM - 6:15 PM
Subject	Constable GD Examination 2022

Section : Part-A-General Intelligence and Reasoning

Q.1 निम्नलिखित में से कौन-सा पद दी गई श्रृंखला में प्रश्न-चिह्न (?) के स्थान पर आएगा?
EPJY, GNKX, ILLW, ?, MHNU

- Ans
- 1. LJMU
 - 2. KJMV
 - 3. LJNU
 - 4. KKNV

Question ID : 26433069444
Status : Answered
Chosen Option : 2

Q.2 एक निश्चित कूट भाषा में, 'SUBTLE' को '40CUMF' के रूप में लिखा जाता है, 'HANGER' को '9OHFS' के रूप में लिखा जाता है, उसी भाषा में 'CLOTH' को कैसे लिखा जाएगा?

- Ans
- 1. 15PUI
 - 2. 15OTH
 - 3. 17OTH
 - 4. 17PUI

Question ID : 26433069649
Status : Answered
Chosen Option : 1

Q.3 उस विकल्प का चयन कीजिए जो तीसरे शब्द से उसी प्रकार संबंधित है जिस प्रकार दूसरा शब्द पहले शब्द से संबंधित है। (शब्दों को अर्थपूर्ण शब्दों के रूप में मानना है और उन्हें शब्द में अक्षरों/व्यंजनों/स्वरों की संख्या के आधार पर एक-दूसरे से संबंधित नहीं करना है।)
पहिया : कार्ट :: निब : ?

- Ans
- 1. लिखना
 - 2. कलम
 - 3. तकिया
 - 4. कागज

Question ID : 26433067971
Status : Answered
Chosen Option : 2

Q.4 निम्नलिखित में से कौन-सी संख्या दी गई श्रंखला में प्रश्न-चिह्न (?) के स्थान पर आकर उसे पूर्ण करेगी?
14, 16, 21, 32, 49, 72, ?

Ans 1. 103

2. 98

3. 105

4. 101

Question ID : 26433069596

Status : Answered

Chosen Option : 4

Q.5 उस विकल्प का चयन कीजिए जो तीसरे शब्द से उसी प्रकार संबंधित है जिस प्रकार दूसरा शब्द पहले शब्द से संबंधित है। (शब्दों को अर्थपूर्ण शब्दों के रूप में मानना है और उन्हें शब्द में अक्षरों/व्यंजनों/स्वरों की संख्या के आधार पर एक-दूसरे से संबंधित नहीं करना है।)
भारत : नई दिल्ली :: ऑस्ट्रेलिया : ?

Ans 1. पर्थ

2. कैनबरा

3. मेलबर्न

4. सिडनी

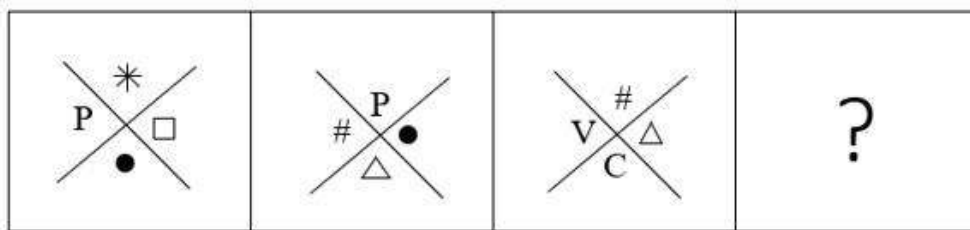
Question ID : 26433079473

Status : Answered

Chosen Option : 4

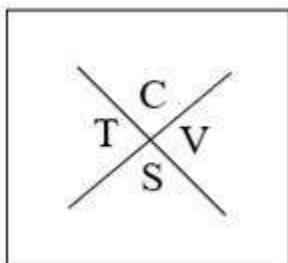
KD Job Updates

Q.6 दिए गए विकल्पों में से उस आकृति का चयन करें जो निम्न श्रृंखला में प्रश्नवाचक चिन्ह (?) के स्थान पर आ सकती है।




Ans

✗ 1.



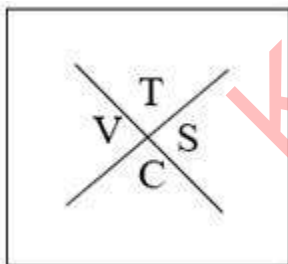
✓ 2.



✗ 3.



✗ 4.



Question ID : 26433080759

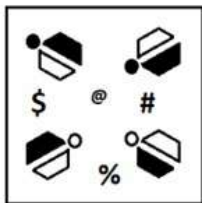
Status : Answered

Chosen Option : 2

Q.7 दर्पण को दाईं ओर रखे जाने पर, निम्नलिखित में से कौन-सी आकृति दी गई प्रश्न आकृति

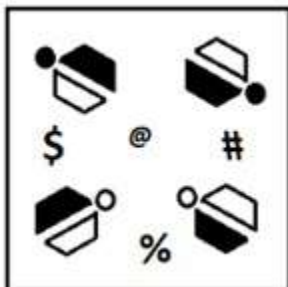
का सटीक दर्पण प्रतिबिम्ब होगी?

प्रश्न आकृति:

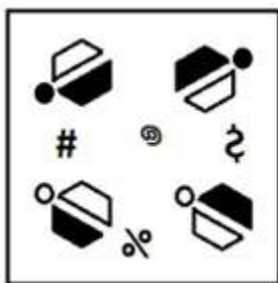


Ans

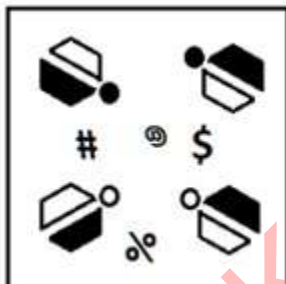
✗ 1.



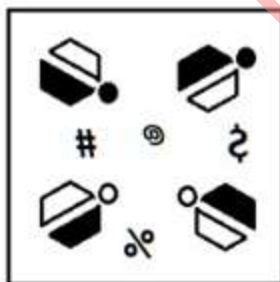
✗ 2.



✗ 3.



✓ 4.

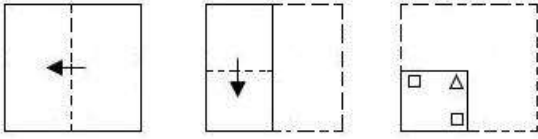


Question ID : 26433087092

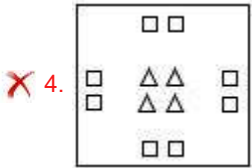
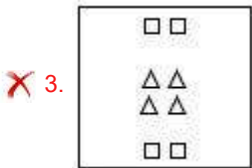
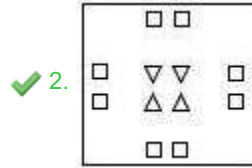
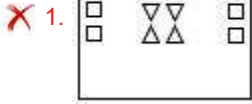
Status : Answered

Chosen Option : 2

Q.8 एक कागज को नीचे दर्शाए गए अनुसार मोड़ा और काटा जाता है। खोले जाने पर यह कैसा दिखाई देगा?



Ans



Question ID : 26433090089

Status : Answered

Chosen Option : 2

Q.9 दिए गए समीकरण को संतुलित करने के लिए इसमें किन दो संख्याओं(अंको को नहीं) और किन दो चिह्नों को आपस में बदला जाना चाहिए?
 $18 \div 3 - 30 + 15 \times 2 = -1$

Ans ✓ 1. 18 और 15; + और -

✗ 2. 15 और 3; + और -

✗ 3. 3 और 30; × और +

✗ 4. 2 और 18; + और ×

Question ID : 26433092746

Status : Answered

Chosen Option : 1

Q.10 उस विकल्प का चयन करें, जो पाँचवीं संख्या से उसी प्रकार संबंधित है, जिस प्रकार दूसरी संख्या, पहली संख्या से संबंधित है और चौथी संख्या, तीसरी संख्या से संबंधित है।
2 : 2 :: 4 : 8 :: 8 : ?

Ans 1. 32

2. 34

3. 20

4. 16

Question ID : 26433069431

Status : Answered

Chosen Option : 1

Q.11 उस विकल्प का चयन कीजिए जो नीचे दिए गए शब्दों के उस क्रम को निरूपित करता है जिस क्रम में वे अंग्रेजी शब्दकोश में आते हैं।

1. SPINY
2. SPINE
3. SPINACH
4. SPINNEY
5. SPIRIT
6. SPIKE

Ans 1. 3, 4, 5, 1, 2, 6

2. 2, 5, 3, 4, 6, 1

3. 6, 2, 5, 1, 4, 3

4. 6, 3, 2, 4, 1, 5

Question ID : 26433079379

Status : Answered

Chosen Option : 4

Q.12 एक निश्चित कूट भाषा में, 'DRIVER' को 'JSETGX' के रूप में लिखा जाता है और 'DURING' को 'SVEIPK' के रूप में लिखा जाता है। उसी भाषा में 'DOLLAR' को किस प्रकार लिखा जाएगा?

Ans 1. LODRAL

2. MPERAL

3. RALLOD

4. MPETCN

Question ID : 26433090042

Status : Answered

Chosen Option : 4

Q.13 छः विद्यार्थी - लवली, जॉनसन, विल, मैरी, सामंथा और जोएल एक वृत्ताकार मेज के परितः मेज के केंद्र की ओर मुख करके बैठे हैं। लवली, जॉनसन के बाईं ओर दूसरे स्थान पर बैठी है। विल, जॉनसन के दाईं ओर दूसरे स्थान पर बैठा है। सामंथा, विल के बाईं ओर तीसरे स्थान पर बैठी है। जोएल, जॉनसन के दाईं ओर तीसरे स्थान पर बैठा है। मैरी, विल और जॉनसन के ठीक बगल में है। लवली और जॉनसन के बीच में कौन बैठा/बैठी है?

- Ans
- 1. मैरी
 - 2. जोएल
 - 3. सामंथा
 - 4. विल

Question ID : 26433081783

Status : Answered

Chosen Option : 3

Q.14 निम्नलिखित में से कौन-सी संख्या दी गई श्रृंखला में प्रश्न चिह्न (?) के स्थान पर आएगी?
3, 9, 21, 45, ?

- Ans
- 1. 134
 - 2. 178
 - 3. 156
 - 4. 93

Question ID : 26433082735

Status : Answered

Chosen Option : 4

KD Job Updates

Q.15

निम्नलिखित विकल्पों में से उस आकृति का चयन करें जिसमें नीचे दी गई

आकृति (X) निहित है (आकृति को घुमाने की अनुमति नहीं है)।



(X)

Ans

✗ 1.



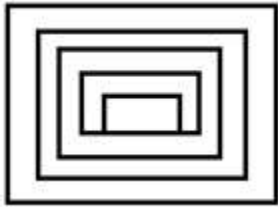
✗ 2.



✓ 3.



✗ 4.



KD Job Updates

Question ID : 26433069536

Status : Answered

Chosen Option : 3

Q.16 तीन कथन दिए गए हैं, जिनके बाद तीन निष्कर्ष I, II और III दिए गए हैं। कथनों को सत्य मानते हुए, भले ही वे सामान्य रूप से ज्ञात तथ्यों से भिन्न प्रतीत होते हों, निर्धारित करें कि कौन-सा/से निष्कर्ष कथनों का तार्किक रूप से अनुसरण करता है/करते हैं।

कथन:

कोई पेन बॉक्स नहीं है।

कुछ पेन खड़िया हैं।

सभी खड़िया इरेज़र हैं।

निष्कर्ष:

I. कुछ इरेज़र पेन हैं।

II. कुछ खड़िया बॉक्स नहीं हैं।

III. कुछ बॉक्स इरेज़र नहीं हैं।

- Ans
- 1. केवल निष्कर्ष II और III अनुसरण करते हैं
 - 2. केवल निष्कर्ष I और II अनुसरण करते हैं
 - 3. केवल निष्कर्ष III अनुसरण करता है
 - 4. सभी निष्कर्ष अनुसरण करते हैं

Question ID : 2643309091

Status : Not Answered

Chosen Option : --

Q.17 एक निश्चित कूट भाषा में,
'A + B' का अर्थ है कि 'A, B की माता है',
'A - B' का अर्थ है कि 'A, B का पिता है',
'A x B' का अर्थ है कि 'A, B का भाई है' और
'A & B' का अर्थ है कि 'A, B की बहन है'।
यदि $N - D \times P + Q \& C$ है, तो Q का N से क्या संबंध है?

- Ans
- 1. बेटी
 - 2. बहन
 - 3. भांजी
 - 4. नातिन

Question ID : 26433070371

Status : Answered

Chosen Option : 4

Q.18 नौ विद्यार्थी - A, B, C, D, E, F, G, H और Z एक पंक्ति में बैठे हैं, लेकिन उनका इसी क्रम में होना अनिवार्य नहीं है। D, C के बाईं ओर ठीक बगल में बैठा है, जो E के दाईं ओर तीसरे स्थान पर है। B पंक्ति के एक सिरे पर बैठा है। H, F और G दोनों के ठीक बगल में बैठा है। F, B के बाईं ओर तीसरे स्थान पर है। A, F के बाईं ओर ठीक बगल में बैठा है। ये सभी नौ विद्यार्थी उत्तर दिशा की ओर मुख करके बैठे हैं, तो D और A के बीच में कौन बैठा है?

- Ans
- 1. C
 - 2. H
 - 3. F
 - 4. Z

Question ID : 26433079057

Status : Answered

Chosen Option : 1

Q.19 नीचे दिए गए समीकरण को गणितीय रूप से सही बनाने के लिए किन दो चिन्हों को परस्पर बदलना चाहिए?

$$24 \times 12 - 6 \div 40 + 20 = 28$$

- Ans
- 1. - और +
 - 2. ÷ और -
 - 3. + और ×
 - 4. + और ÷

Question ID : 264330117524

Status : Answered

Chosen Option : 2

Q.20 दिए गए विकल्पों में से उस अक्षर-समूह का चयन कीजिए जो निम्न श्रृंखला में प्रश्न-चिह्न (?) के स्थान पर आ सकता है।

HLPE, DHXM, ZDFU, ? , RVVK

- Ans
- 1. FBIR
 - 2. VZNC
 - 3. FPED
 - 4. VQHO

Question ID : 26433074752

Status : Answered

Chosen Option : 2

Section : Part-B-General Knowledge and General awareness

Q.1 Fundamental Duties of the Indian Constitution are adopted from which country?

- Ans
- 1. United States of America
 - 2. Germany
 - 3. USSR (Now Russia)
 - 4. Britain

Question ID : 264330115629

Status : Answered

Chosen Option : 3

Q.2 किस शहर की स्मार्ट सिटी बस परियोजना ने शहरी गतिशीलता (अर्बन मोबिलिटी) श्रेणी में इंडिया स्मार्ट सिटीज अवार्ड (ISAC) 2020 जीता है।

- Ans
- 1. औरंगाबाद
 - 2. इंदौर
 - 3. पुणे
 - 4. आगरा

Question ID : 264330115558

Status : Not Answered

Chosen Option : --

Q.3 हरित क्रांति ने खाद्य फसलों की उपज में वृद्धि की, और इस प्रकार भारतीय अर्थव्यवस्था में _____ योगदान दिया।

- Ans
- 1. निष्क्रिय
 - 2. प्रतिकूल
 - 3. सकारात्मक
 - 4. नकारात्मक

Question ID : 264330115424
Status : Answered
Chosen Option : 3

Q.4 भारत ने पुरुष हॉकी विश्व कप कितनी बार जीता है?

- Ans
- 1. 1
 - 2. 0
 - 3. 2
 - 4. 4

Question ID : 264330116305
Status : Answered
Chosen Option : 4

Q.5 हॉकी मैदान का आयाम _____ होता है।

- Ans
- 1. 90 m लंबा और 50 m चौड़ा
 - 2. 96 m लंबा और 55 m चौड़ा
 - 3. 91.4 m लंबा और 55 m चौड़ा
 - 4. 95 m लंबा और 60 m चौड़ा

Question ID : 264330115948
Status : Not Answered
Chosen Option : --

Q.6 निम्नलिखित में से कौन छऊ नृत्य से संबंधित है?

- Ans
- 1. गोपाल प्रसाद दुबे
 - 2. विदुषी केएस जयलक्ष्मी
 - 3. महबूब सुभानी
 - 4. सुचित्रा एला

Question ID : 264330115888
Status : Not Answered
Chosen Option : --

Q.7 फरवरी 2022 में चुनाव के बाद उत्तराखंड के नए मुख्यमंत्री कौन बने?

- Ans
- 1. प्रमोद सावंत
 - 2. जय राम ठाकुर
 - 3. पुष्कर सिंह धामी
 - 4. भूपेंद्र रजनीकांत पटेल

Question ID : 264330115014

Status : Answered

Chosen Option : 3

Q.8 सातवाहन _____ भारत में एक शक्तिशाली राजवंश थे।

- Ans
- 1. पूर्वी
 - 2. पश्चिम
 - 3. उत्तरी
 - 4. दक्षिण

Question ID : 264330115464

Status : Not Answered

Chosen Option : --

Q.9 हरित क्रांति से किन फसलों को अधिक लाभ हुआ?

- Ans
- 1. खाद्यान्न
 - 2. दलहन
 - 3. तिलहन
 - 4. वानस्पतिक

Question ID : 26433054631

Status : Answered

Chosen Option : 1

Q.10 उपभोक्ता संरक्षण अधिनियम 2019 के अनुसार, एक ई-कॉमर्स इकाई भारतीय कंपनी अधिनियम के अनुसार निगमित कंपनी है और यह अनुपालन सुनिश्चित करने के लिए एक _____ नियुक्त करेगी।

- Ans
- 1. अधीनस्थ
 - 2. सुलह अधिकारी
 - 3. कनिष्ठ कर्मचारी
 - 4. नोडल अधिकारी

Question ID : 264330116234

Status : Not Answered

Chosen Option : --

Q.11 _____ आवर्त सारणी पर 17वें समूह में स्थित हैं।

- Ans
- 1. अक्रिय गैस
 - 2. बोरोन
 - 3. काल्कोजन
 - 4. हैलोजन

Question ID : 264330115181
Status : Not Answered
Chosen Option : --

Q.12 याओशांग (Yaoshang) उत्सव जो मणिपुर में प्रसिद्ध है, _____ दिनों तक मनाया जाता है।

- Ans
- 1. पांच
 - 2. तीन
 - 3. दो
 - 4. चार

Question ID : 264330115127
Status : Not Answered
Chosen Option : --

Q.13 ग्लेशियर आमतौर पर _____ में पाए जाते हैं।

- Ans
- 1. मैदान
 - 2. पठार
 - 3. नदियां
 - 4. पहाड़

Question ID : 264330115994
Status : Answered
Chosen Option : 4

Q.14 राष्ट्रीय ग्रामीण रोजगार गारंटी अधिनियम प्रत्येक ग्रामीण परिवार को प्रति वर्ष कितने दिनों के रोजगार का आश्वासन देता है?

- Ans
- 1. 300 दिन
 - 2. 200 दिन
 - 3. 250 दिन
 - 4. 100 दिन

Question ID : 264330116086
Status : Not Answered
Chosen Option : --

Q.15 औपनिवेशिक भारत में इंडियन एसोशिएशन की स्थापना निम्नलिखित में से किस स्थान पर हुई थी?

- Ans
- 1. लखनऊ
 - 2. कलकत्ता
 - 3. सूरत
 - 4. पूना

Question ID : 26433089890

Status : Not Answered

Chosen Option : --

Q.16 निम्नलिखित में से कौन सा लोक नृत्य मुख्य रूप से छत्तीसगढ़ में किया जाता है?

- Ans
- 1. कालबेलिया
 - 2. रौद्र
 - 3. भांगड़ा
 - 4. राउत

Question ID : 26433071421

Status : Answered

Chosen Option : 1

Q.17 राज्य विधायिका के निम्न सदन को _____ कहा जाता है।

- Ans
- 1. राज्यसभा
 - 2. लोकसभा
 - 3. विधानसभा
 - 4. विधान परिषद

Question ID : 26433086675

Status : Answered

Chosen Option : 2

Q.18 यीस्ट और हाइड्रोजन पेरोक्साइड _____ बनाते हैं।

- Ans
- 1. ऑक्सीजन मोनोऑक्साइड
 - 2. ऑक्सीजन
 - 3. कार्बन डाइऑक्साइड
 - 4. कार्बन

Question ID : 264330115200

Status : Not Answered

Chosen Option : --

Q.19 भारत के गुजरात में स्थित एक सहकारी बैंक, SEWA (स्व-नियोजित महिला संघ) की शुरुआत _____ में हुई थी।

- Ans
- 1. 1874
 - 2. 1894
 - 3. 1994
 - 4. 1974

Question ID : 264330115311
Status : Not Answered
Chosen Option : --

Q.20 नवंबर 2022 में भारत सरकार के किस केंद्रीय मंत्री ने 'इंडिया केम 2022' का उद्घाटन किया?

- Ans
- 1. राजीव चंद्रशेखर
 - 2. राजनाथ सिंह
 - 3. मनसुख मंडाविया
 - 4. किरण रिजिजू

Question ID : 264330114962
Status : Not Answered
Chosen Option : --

Section : Part-C-Elementary Mathematics

Q.1 दिनेश अपने ग्राहकों को रेनकोट पर 15% की छूट प्रदान करता है और वह फिर भी 25% का लाभ कमाता है। Rs.800 के अंकित मूल्य वाले रेनकोट की वास्तविक कीमत क्या है?

- Ans
- 1. Rs.542
 - 2. Rs.546
 - 3. Rs.540
 - 4. Rs.544

Question ID : 26433082976
Status : Answered
Chosen Option : 4

Q.2 समान लंबाई की दो ट्रेनें समानांतर पटरियों पर एक ही दिशा में 46 km/h और 36 km/h चाल से चल रही हैं। यदि तेज ट्रेन धीमी ट्रेन को 36 सेकंड में पार करती है तो प्रत्येक ट्रेन की लंबाई की गणना करें।

- Ans
- 1. 50 मीटर
 - 2. 44 मीटर
 - 3. 41 मीटर
 - 4. 47 मीटर

Question ID : 26433076331
Status : Answered
Chosen Option : 1

Q.3 एक मूलधन 8 प्रतिशत वार्षिक चक्रवृद्धि ब्याज दर से वार्षिक चक्रवृद्धि आधार पर गणना किए जाने पर 3 वर्ष में ₹19,683 हो जाता है। मूलधन क्या है?

- Ans
- 1. ₹16,825
 - 2. ₹13,526
 - 3. ₹14,825
 - 4. ₹15,625

Question ID : 26433079885

Status : Answered

Chosen Option : 4

Q.4 मोहन और रमेश मिलकर एक काम को 6 दिनों में कर सकते हैं और मोहन अकेला उसे 10 दिनों में कर सकता है। रमेश अकेला उसी काम को कितने दिनों में कर सकता है?

- Ans
- 1. 11.25
 - 2. 15
 - 3. 8
 - 4. 7.5

Question ID : 26433076206

Status : Answered

Chosen Option : 2

Q.5 अनित एक कार्य को 77 दिनों में कर सकता है। राम उसी कार्य को 11 दिन में कर सकता है। राम और अनित एक साथ कार्य शुरू करते हैं लेकिन राम कार्य पूरा होने से 3 दिन पहले कार्य छोड़ देता है। दिनों की अनुमानित संख्या ज्ञात करें जिसमें कार्य पूरा हुआ।

- Ans
- 1. 17 दिन
 - 2. 14 दिन
 - 3. 12 दिन
 - 4. 11 दिन

Question ID : 264330116918

Status : Not Answered

Chosen Option : --

Q.6 यदि सामान Rs.600 में खरीदा जाता है और उसका पांचवां हिस्सा 20% की हानि पर बेचा जाता है, तो शेष को कितने प्रतिशत लाभ पर बेचा जाना चाहिए ताकि पूरे लेनदेन पर 30% का लाभ हो?

- Ans
- 1. 40%
 - 2. 22.5%
 - 3. 42.5%
 - 4. 22%

Question ID : 26433081021

Status : Answered

Chosen Option : 3

Q.7 0.25, 2.08 और 8.1 का महत्तम समापवर्तक ज्ञात कीजिए।

Ans 1. 0.01

2. 0.02

3. 0.05

4. 0.1

Question ID : 26433082589

Status : Answered

Chosen Option : 1

Q.8 एक कर्मचारी के वेतन में पहले 15% की वृद्धि और फिर 25% की कमी की जाती है। उसके वेतन में कितने प्रतिशत की वृद्धि या कमी होगी?

Ans 1. 11.23% वृद्धि

2. 13.75% कमी

3. 12.89% कमी

4. 14% वृद्धि

Question ID : 26433082710

Status : Marked For Review

Chosen Option : 2

Q.9 एक कक्षा में 50 विद्यार्थी हैं। यदि लड़कों की संख्या और लड़कियों की संख्या का अनुपात 16:9 है, तो स्कूल में लड़कों और लड़कियों की संख्या के बीच का मध्यानुपाती क्या है?

Ans 1. 36

2. 24

3. 16

4. 22

Question ID : 26433082388

Status : Answered

Chosen Option : 2

Q.10 वह सबसे बड़ी संख्या ज्ञात करें, जिससे संख्या 47, 95 और 187 को विभाजित करने पर प्रत्येक स्थिति में समान शेषफल प्राप्त होता है।

Ans 1. 4

2. 2

3. 8

4. 6

Question ID : 26433082342

Status : Answered

Chosen Option : 1

Q.11 मोहन और सोहन ने एक साथ एक संपत्ति में क्रमशः ₹6,000 और ₹8,000 का निवेश किया और 6 महीने के बाद सोहन अपनी निवेश की गई राशि वापस ले लेता है। एक वर्ष के अंत में मोहन और सोहन द्वारा प्राप्त धन का अनुपात क्या है?

Ans 1. 4:3

2. 3:2

3. 2:3

4. 3:4

Question ID : 26433075672

Status : Answered

Chosen Option : 2

Q.12 एक दूधवाले ने 45 लीटर दूध खरीदा और उसमें 15 लीटर पानी मिला दिया। यदि मिश्रण का प्रति लीटर मूल्य ₹50 हो जाता है, तो प्रति लीटर दूध का क्रय मूल्य कितना होगा? (पानी निःशुल्क उपलब्ध है)

Ans 1. ₹66 $\frac{2}{3}$

2. ₹61 $\frac{2}{3}$

3. ₹34 $\frac{2}{3}$

4. ₹33 $\frac{2}{3}$

Question ID : 26433076395

Status : Not Answered

Chosen Option : --

Q.13 एक गाँव की जनसंख्या में पहले वर्ष में 5% की वृद्धि होती है और दूसरे वर्ष में यह 5% घट जाती है। दूसरे वर्ष के अंत में इसकी जनसंख्या 9975 थी। पहले वर्ष की शुरुआत में जनसंख्या कितनी थी?

Ans 1. 9500

2. 10500

3. 9000

4. 10000

Question ID : 26433075099

Status : Answered

Chosen Option : 2

Q.14 विधि ने राधा को चक्रवृद्धि ब्याज पर ₹8,000, 2 वर्ष के लिए 5% वार्षिक की दर से वार्षिक चक्रवृद्धि आधार पर दिए। विधि को तब कितनी हानि होती जब उसने राधा को यह धनराशि 5% वार्षिक के साधारण ब्याज पर 2 वर्ष के लिए दी होती?

- Ans
- 1. ₹18
 - 2. ₹12
 - 3. ₹15
 - 4. ₹20

Question ID : 26433080124

Status : Answered

Chosen Option : 4

Q.15 5%, 10%, 15% और 20% के बराबर एक एकल छूट कितनी है?

- Ans
- 1. 42.76%
 - 2. 41.86%
 - 3. 32.88%
 - 4. 36.92%

Question ID : 26433080222

Status : Answered

Chosen Option : 1

Q.16 यदि एक घनाभाकार बॉक्स की लंबाई, चौड़ाई और ऊँचाई क्रमशः 24 cm, 16 cm और 12 cm है, तो बॉक्स का आयतन _____ है।

- Ans
- 1. 4612 cm³
 - 2. 4644 cm³
 - 3. 4608 cm³
 - 4. 4632 cm³

Question ID : 26433090307

Status : Answered

Chosen Option : 3

Q.17 7 cm व्यास वाले एक अर्धगोले का संपूर्ण पृष्ठीय क्षेत्रफल ज्ञात करें। $\pi = \frac{22}{7}$ लें

- Ans
- 1. 98 cm²
 - 2. 87.5 cm²
 - 3. 115.5 cm²
 - 4. 77 cm²

Question ID : 26433076250

Status : Answered

Chosen Option : 4

Q.18 30 पुरुषों की औसत आयु 25 वर्ष है। उनके साथ 30 वर्ष की औसत आयु के 5 नए पुरुष शामिल हुए। सभी पुरुषों की एक साथ औसत आयु ज्ञात कीजिए।

- Ans
- 1. $28\frac{5}{7}$ वर्ष
 - 2. $25\frac{5}{7}$ वर्ष
 - 3. $26\frac{5}{7}$ वर्ष
 - 4. $27\frac{5}{7}$ वर्ष

Question ID : 26433076303

Status : Answered

Chosen Option : 2

Q.19 एक वस्तु को ₹900 में बेचने पर अर्जित लाभ उसी वस्तु को ₹450 में बेचने पर हुई हानि का दोगुना है। 25% लाभ कमाने के लिए वस्तु को किस मूल्य पर बेचा जाना चाहिए?

- Ans
- 1. ₹750
 - 2. ₹850
 - 3. ₹650
 - 4. ₹950

Question ID : 26433075878

Status : Answered

Chosen Option : 1

Q.20 एक कार 51 km/h की एक समान चाल से चल रही है। 10:40 a.m. से 1:00 p.m. तक कार द्वारा तय की गई दूरी _____ है।

- Ans
- 1. 100 km
 - 2. 119 km
 - 3. 125 km
 - 4. 115 km

Question ID : 26433081591

Status : Answered

Chosen Option : 4

Section : Part-D-English

Q.1 Substitute the underlined word segment with most appropriate idiom.

They had to cancel their trip at the last minute due to bad weather.

- Ans
- 1. at a stone's throw
 - 2. at the eleventh hour
 - 3. at somebody's beck and call
 - 4. at sixes and sevens

Question ID : 26433084693

Status : Answered

Chosen Option : 2

Q.2 Select the most appropriate synonym of the given word.

Objective

- Ans
- 1. Subjective
 - 2. Heartfelt
 - 3. Purpose
 - 4. Tyrannical

Question ID : 26433073983
Status : Answered
Chosen Option : 3

Q.3 Select the most appropriate option that can substitute the underlined segment in the given sentence.

After a long journey I was looking forward to sleep on a comfortable bed.

- Ans
- 1. sleeps on a
 - 2. sleep over a
 - 3. sleeping in a
 - 4. sleep into a

Question ID : 264330101306
Status : Answered
Chosen Option : 2

Q.4 Select the most appropriate ANTONYM of the given word.

Esteem

- Ans
- 1. Value
 - 2. Notice
 - 3. Condemn
 - 4. Regret

Question ID : 26433090788
Status : Answered
Chosen Option : 3

Q.5 Select the most appropriate option that can substitute the underlined segment in the given sentence. If there is no need to substitute it, select 'No substitution required'.

Nithi was not feeling well, yet she decide to go to work.

- Ans
- 1. or she decided to go for work
 - 2. No substitution required
 - 3. yet she decided to go to work
 - 4. yet she have decided to go to work

Question ID : 26433091872
Status : Answered
Chosen Option : 3

Q.6 Select the most appropriate option to fill in the blank.

Soumyashree, while talking on the topic, could not _____ the interview board.

- Ans
- 1. stabilise
 - 2. conceive
 - 3. permeate
 - 4. impress

Question ID : 26433073790
Status : Answered
Chosen Option : 2

Q.7 Select the most appropriate ANTONYM of the given word.

Revive

- Ans
- 1. Destroy
 - 2. Revolve
 - 3. Incline
 - 4. Rejuvenate

Question ID : 26433090798
Status : Answered
Chosen Option : 1

Q.8 Select the most appropriate meaning of the given idiom.

Get a second wind

- Ans
- 1. Have renewed energy after having been tired
 - 2. Have less energy and be extremely tired
 - 3. Have two different choices
 - 4. Having less energy after resting

Question ID : 26433070652
Status : Answered
Chosen Option : 1

Q.9 Select the most appropriate ANTONYM of the word given in brackets to fill in the blank.

The keeper had no intention to _____ (attend) the goal, but the ball was hit too hard to be stopped.

- Ans
- 1. miss
 - 2. bring
 - 3. believe
 - 4. blow

Question ID : 26433089748
Status : Answered
Chosen Option : 1

Q.10 Select the most appropriate synonym of the given word to fill in the blank in the sentence.

Elaborate

A/an _____ water clock depicting zodiac signs is present in the city museum.

- Ans
- 1. resonant
 - 2. intricate
 - 3. beautiful
 - 4. divulging

Question ID : 26433060557
Status : Answered
Chosen Option : 1

Q.11 Parts of the following sentence have been underlined and given as options. Select the option that contains an error.

We all know that sugar and honey tastes very sweet.

- Ans
- 1. tastes
 - 2. all
 - 3. know
 - 4. sweet

Question ID : 26433089370
Status : Answered
Chosen Option : 3

Q.12 Select the INCORRECTLY spelt word.

- Ans
- 1. Viceregal
 - 2. Dalmation
 - 3. Venerate
 - 4. Retinal

Question ID : 26433073761
Status : Answered
Chosen Option : 1

Q.13 Select the most appropriate option that can substitute the underlined segment in the given sentence.

The door which connecting the two offices is kept locked.

- Ans
- 1. connects
 - 2. has connecting
 - 3. does connecting
 - 4. can connecting

Question ID : 26433088829
Status : Answered
Chosen Option : 1

Q.14 Select the most appropriate option to fill in the blank as synonym for the underlined word.

The most arrogant employee in his company was sacked by the boss. No one could tolerate his _____ nature.

- Ans
- 1. plain
 - 2. dicey
 - 3. pricey
 - 4. haughty

Question ID : 26433094735
Status : Answered
Chosen Option : 4

Q.15 Select the most appropriate synonym of the given word.

Secure

- Ans
- 1. Independent
 - 2. Safe
 - 3. Comfortable
 - 4. Secret

Question ID : 26433088130
Status : Answered
Chosen Option : 2

Comprehension:

In the following passage, some words have been deleted. Read the passage carefully and select the most appropriate option to fill in each blank.

People who hitchhike talk about (1) _____ experiences in the course of their journeys. While there are (2) _____ bitter experiences, most of the trips are pleasant. What comes out as a common point worth mentioning (3) _____ the goodness that most drivers and riders exhibit. The (4) _____ rendered by them not just in giving them a ride but in also sponsoring food along the way. Faith in humanity and (5) _____ wins in the bargain.

SubQuestion No : 16

Q.16 Select the most appropriate option to fill in blank number 1.

- Ans
- 1. worried
 - 2. varied
 - 3. emptied
 - 4. conversant

Question ID : 26433091776
Status : Answered
Chosen Option : 4

Comprehension:

In the following passage, some words have been deleted. Read the passage carefully and select the most appropriate option to fill in each blank.

People who hitchhike talk about (1)_____ experiences in the course of their journeys. While there are (2)_____ bitter experiences, most of the trips are pleasant. What comes out as a common point worth mentioning (3)_____ the goodness that most drivers and riders exhibit. The (4)_____ rendered by them not just in giving them a ride but in also sponsoring food along the way. Faith in humanity and (5)_____ wins in the bargain.

SubQuestion No : 17

Q.17 Select the most appropriate option to fill in blank number 2.

- Ans 1. much
 2. such
 3. few
 4. lot

Question ID : 26433091777

Status : Answered

Chosen Option : 3

Comprehension:

In the following passage, some words have been deleted. Read the passage carefully and select the most appropriate option to fill in each blank.

People who hitchhike talk about (1)_____ experiences in the course of their journeys. While there are (2)_____ bitter experiences, most of the trips are pleasant. What comes out as a common point worth mentioning (3)_____ the goodness that most drivers and riders exhibit. The (4)_____ rendered by them not just in giving them a ride but in also sponsoring food along the way. Faith in humanity and (5)_____ wins in the bargain.

SubQuestion No : 18

Q.18 Select the most appropriate option to fill in blank number 3.

- Ans 1. am
 2. on
 3. is
 4. are

Question ID : 26433091778

Status : Answered

Chosen Option : 3

Comprehension:

In the following passage, some words have been deleted. Read the passage carefully and select the most appropriate option to fill in each blank.

People who hitchhike talk about (1)_____ experiences in the course of their journeys. While there are (2)_____ bitter experiences, most of the trips are pleasant. What comes out as a common point worth mentioning (3)_____ the goodness that most drivers and riders exhibit. The (4)_____ rendered by them not just in giving them a ride but in also sponsoring food along the way. Faith in humanity and (5)_____ wins in the bargain.

SubQuestion No : 19

Q.19 Select the most appropriate option to fill in blank number 4.

- Ans
- 1. stringency
 - 2. brevity
 - 3. hospitality
 - 4. conformity

Question ID : 26433091779

Status : Answered

Chosen Option : 3

Comprehension:

In the following passage, some words have been deleted. Read the passage carefully and select the most appropriate option to fill in each blank.

People who hitchhike talk about (1)_____ experiences in the course of their journeys. While there are (2)_____ bitter experiences, most of the trips are pleasant. What comes out as a common point worth mentioning (3)_____ the goodness that most drivers and riders exhibit. The (4)_____ rendered by them not just in giving them a ride but in also sponsoring food along the way. Faith in humanity and (5)_____ wins in the bargain.

SubQuestion No : 20

Q.20 Select the most appropriate option to fill in blank number 5.

- Ans
- 1. frailty
 - 2. humaneness
 - 3. animosity
 - 4. consciousness

Question ID : 26433091780

Status : Answered

Chosen Option : 4

Section : Part-D-Hindi

Q.1 “एक अच्छे निबंध में बुद्धि व हृदय का सामंजस्य होना चाहिए।”
उक्त वाक्य में प्रयुक्त ‘सामंजस्य’ के स्थान पर उसके समानार्थी शब्द का प्रयोग निम्न में से किस वाक्य में किया गया है?

- Ans
- 1. एक अच्छे निबंध में बुद्धि व हृदय का समुदाय होना चाहिए।
 - 2. एक अच्छे निबंध में बुद्धि व हृदय का सौष्ठव होना चाहिए।
 - 3. एक अच्छे निबंध में बुद्धि व हृदय का समन्वय होना चाहिए।
 - 4. एक अच्छे निबंध में बुद्धि व हृदय का मिश्रण होना चाहिए।

Question ID : 26433067031

Status : Not Answered

Chosen Option : --

Q.2 'नकटा _____।' उपर्युक्त वाक्य में रिक्त स्थान के लिए उपयुक्त विकल्प निम्न में से क्या होगा?

- Ans
- 1. का अर्थ होता है जिसका अंगूठा छोटा हो
 - 2. का अर्थ होता है जिसका नाम न हो
 - 3. का अर्थ होता है जिसका कद छोटा हो
 - 4. का अर्थ होता है जिसकी नाक कटी हो

Question ID : 26433067044
Status : Not Answered
Chosen Option : --

Q.3 'छत पर कौआ बोल रहा है।' उपरोक्त वाक्य में प्रयुक्त 'कौआ' शब्द का पर्याय क्या है?

- Ans
- 1. काक
 - 2. शिख
 - 3. खग
 - 4. पिक

Question ID : 26433080859
Status : Not Answered
Chosen Option : --

Q.4 'रेगिस्तान में _____ की सवारी बहुत मजेदार होती है।' इस वाक्य में रिक्त स्थान की पूर्ति शुद्ध शब्द द्वारा कीजिए।

- Ans
- 1. ऊँट
 - 2. ऊख
 - 3. उंट
 - 4. ऊट

Question ID : 26433069704
Status : Not Answered
Chosen Option : --

Q.5 'अपना _____ सीधा करना' इस मुहावरे को पूरा करें।

- Ans
- 1. दिमाग
 - 2. कमर
 - 3. मतलब
 - 4. उल्लू

Question ID : 26433066815
Status : Not Answered
Chosen Option : --

Q.6 'तुम्हारा गांव किधर को है?' इस वाक्य में अशुद्धि पहचाने-

- Ans
- 1. है
 - 2. तुम्हारा
 - 3. किधर को
 - 4. गांव

Question ID : 26433091302

Status : Not Answered

Chosen Option : --

Q.7 नीचे दिए शब्द के लिए उचित वाक्यांश दिए गए विकल्पों में से चुनिए-
निरंकुश

- Ans
- 1. जिस पर नियंत्रण किया गया हो
 - 2. जिसे आशा न रह गई हो
 - 3. जिसका कोई आकार न हो
 - 4. जिस पर किसी प्रकार का नियंत्रण न हो

Question ID : 26433062392

Status : Not Answered

Chosen Option : --

Q.8 निम्न वाक्य में रेखांकित शब्द के लिए विकल्पों में कौन सा शब्द सर्वाधिक उपयुक्त होगा?
'मैंने तलवार द्वारा शत्रु को मार दिया।'

- Ans
- 1. ने
 - 2. को
 - 3. से
 - 4. वह

Question ID : 26433066713

Status : Not Answered

Chosen Option : --

Q.9 निम्नलिखित में से शुद्ध वाक्य का चयन कीजिए।

- Ans
- 1. उसे शिमला जाना है।
 - 2. उसका शिमला जाना है।
 - 3. उसने शिमला जाना है।
 - 4. उससे शिमला जाना है।

Question ID : 26433066962

Status : Not Answered

Chosen Option : --

Q.10 दिए गए मुहावरे में रेखांकित अंश के स्थान पर सबसे उपयुक्त विकल्प कौन-सा होगा?
'अंधों में काना रानी'

- Ans
- 1. नौकर
 - 2. राजा
 - 3. महाराजा
 - 4. दोस्त

Question ID : 26433066738
Status : Not Answered
Chosen Option : --

Q.11 यह हॉल पंडित समाज के लिए आरक्षित है।
उपरोक्त वाक्य में रेखांकित पद के स्थान पर निम्न में से कौन सा शब्द आ सकता है?

- Ans
- 1. मूर्ख
 - 2. बुद्ध
 - 3. गरीब
 - 4. शिक्षित

Question ID : 26433079174
Status : Not Answered
Chosen Option : --

Q.12 निम्न वाक्यांश के लिए सही वर्तनी वाले उपयुक्त एक शब्द का चयन कीजिए।
जिसे ईश्वर में विश्वास हो

- Ans
- 1. आस्तिक
 - 2. आस्तिख
 - 3. आप्तिक
 - 4. आश्रितक

Question ID : 26433070087
Status : Not Answered
Chosen Option : --

Q.13 निम्न शब्द के पर्यायवाची शब्द का किस वाक्य में प्रयोग किया गया है?
पृथ्वी

- Ans
- 1. वसुधा हरी-भरी है।
 - 2. सरिता हरी-भरी है।
 - 3. किसलय हरी-भरी है।
 - 4. भागीरथी बड़ी है।

Question ID : 26433066935
Status : Not Answered
Chosen Option : --

Q.14 निम्नलिखित वाक्य में रेखांकित शब्द के विलोम से वाक्य के रिक्त स्थान की पूर्ति कीजिए।
अगर पूत कूपूत हो तो मात-पिता का जीवन व्यर्थ हो जाता है और यदि _____ हो तो सार्थक।

- Ans
- 1. उद्योगी
 - 2. दुपूत
 - 3. विज्ञ
 - 4. सपूत

Question ID : 26433085005

Status : Not Answered

Chosen Option : --

Q.15 निम्नलिखित विकल्पों में से कौन सा एक वाक्य क्रिया-विशेषण से सम्बन्ध रखता है?

- Ans
- 1. हम पढ़ते हैं।
 - 2. पिता का कर्तव्य है कि संतानों का पालन करे।
 - 3. वे कमाते हैं।
 - 4. किशन बहुत तेज दौड़ता है।

Question ID : 26433062956

Status : Not Answered

Chosen Option : --

Comprehension:

निम्नलिखित गद्यांश में से कुछ शब्द हटा दिए गए हैं। दिए गए विकल्पों की सहायता से रिक्त स्थानों की पूर्ति कीजिए। प्रत्येक संख्या के लिए उपयुक्त विकल्प का चयन कीजिए।

एक पाठशाला का 1. _____ था। मैं भी 2. _____ बुलाया गया था। वहाँ के प्रधान अध्यापक का एक मात्र पुत्र, जिसकी अवस्था आठ 3. _____ की थी, बड़े लाड़ से नुमाइश में मिस्टर हादी के कोल्हू की तरह दिखाया जा रहा था। उसका मुँह पीला था, आँखें सफेद 4. _____, दृष्टि भूमि से उठती नहीं थी। 5. _____ पूछे जा रहे थे। उनका वह उत्तर दे रहा था।

SubQuestion No : 16

Q.16 रिक्त स्थान 1 की पूर्ति के लिए सर्वाधिक उपयुक्त विकल्प का चयन कीजिए।

- Ans
- 1. वार्षिकोत्सव
 - 2. त्योहार
 - 3. दैनिकोत्सव
 - 4. मार्गोत्सव

Question ID : 26433079704

Status : Not Answered

Chosen Option : --

Comprehension:

निम्नलिखित गद्यांश में से कुछ शब्द हटा दिए गए हैं। दिए गए विकल्पों की सहायता से रिक्त स्थानों की पूर्ति कीजिए। प्रत्येक संख्या के लिए उपयुक्त विकल्प का चयन कीजिए।

एक पाठशाला का 1. _____ था। मैं भी 2. _____ बुलाया गया था। वहाँ के प्रधान अध्यापक का एक मात्र पुत्र, जिसकी अवस्था आठ 3. _____ की थी, बड़े लाड़ से नुमाइश में मिस्टर हादी के कोल्हू की तरह दिखाया जा रहा था। उसका मुँह पीला था, आँखें सफेद 4. _____, दृष्टि भूमि से उठती नहीं थी। 5. _____ पूछे जा रहे थे। उनका वह उत्तर दे रहा था।

SubQuestion No : 17

Q.17 रिक्त स्थान 2 की पूर्ति के लिए सर्वाधिक उपयुक्त विकल्प का चयन कीजिए।

- Ans
- 1. कहाँ
 - 2. सबमें
 - 3. किधर
 - 4. वहाँ

Question ID : 26433079705

Status : Not Answered

Chosen Option : --

Comprehension:

निम्नलिखित गद्यांश में से कुछ शब्द हटा दिए गए हैं। दिए गए विकल्पों की सहायता से रिक्त स्थानों की पूर्ति कीजिए। प्रत्येक संख्या के लिए उपयुक्त विकल्प का चयन कीजिए।

एक पाठशाला का 1. _____ था। मैं भी 2. _____ बुलाया गया था। वहाँ के प्रधान अध्यापक का एक मात्र पुत्र, जिसकी अवस्था आठ 3. _____ की थी, बड़े लाड़ से नुमाइश में मिस्टर हादी के कोल्हू की तरह दिखाया जा रहा था। उसका मुँह पीला था, आँखें सफेद 4. _____, दृष्टि भूमि से उठती नहीं थी। 5. _____ पूछे जा रहे थे। उनका वह उत्तर दे रहा था।

SubQuestion No : 18

Q.18 रिक्त स्थान 3 की पूर्ति के लिए सर्वाधिक उपयुक्त विकल्प का चयन कीजिए।

- Ans
- 1. वर्ष
 - 2. घड़ी
 - 3. दिन
 - 4. पल

Question ID : 26433079706

Status : Not Answered

Chosen Option : --

Comprehension:

निम्नलिखित गद्यांश में से कुछ शब्द हटा दिए गए हैं। दिए गए विकल्पों की सहायता से रिक्त स्थानों की पूर्ति कीजिए। प्रत्येक संख्या के लिए उपयुक्त विकल्प का चयन कीजिए।

एक पाठशाला का 1. _____ था। मैं भी 2. _____ बुलाया गया था। वहाँ के प्रधान अध्यापक का एक मात्र पुत्र, जिसकी अवस्था आठ 3. _____ की थी, बड़े लाड़ से नुमाइश में मिस्टर हादी के कोल्हू की तरह दिखाया जा रहा था। उसका मुँह पीला था, आँखें सफेद 4. _____, दृष्टि भूमि से उठती नहीं थी। 5. _____ पूछे जा रहे थे। उनका वह उत्तर दे रहा था।

SubQuestion No : 19

Q.19 रिक्त स्थान 4 की पूर्ति के लिए सर्वाधिक उपयुक्त विकल्प का चयन कीजिए।

- Ans 1. थीं
 2. होती
 3. था
 4. होगी

Question ID : 26433079707

Status : Not Answered

Chosen Option : --

Comprehension:

निम्नलिखित गद्यांश में से कुछ शब्द हटा दिए गए हैं। दिए गए विकल्पों की सहायता से रिक्त स्थानों की पूर्ति कीजिए। प्रत्येक संख्या के लिए उपयुक्त विकल्प का चयन कीजिए।

एक पाठशाला का 1. _____ था। मैं भी 2. _____ बुलाया गया था। वहाँ के प्रधान अध्यापक का एक मात्र पुत्र, जिसकी अवस्था आठ 3. _____ की थी, बड़े लाड़ से नुमाइश में मिस्टर हादी के कोल्हू की तरह दिखाया जा रहा था। उसका मुँह पीला था, आँखें सफेद 4. _____, दृष्टि भूमि से उठती नहीं थी। 5. _____ पूछे जा रहे थे। उनका वह उत्तर दे रहा था।

SubQuestion No : 20

Q.20 रिक्त स्थान 5 की पूर्ति के लिए सर्वाधिक उपयुक्त विकल्प का चयन कीजिए।

- Ans 1. कहानी
 2. प्रश्न
 3. रिश्ते
 4. बातें

Question ID : 26433079708

Status : Not Answered

Chosen Option : --

Q.6 A @ B का अर्थ है 'A, B की बहन है'।
A & B का अर्थ है 'A, B का भाई है'।
A # B का अर्थ है 'A, B की पत्नी है'।
A ^ B का अर्थ है 'A, B की माता है'।
A + B का अर्थ है 'A, B के पिता है'।
यदि U + Q ^ R @ N & C ^ I @ J # A है, तो निम्नलिखित में से कौन-सा कथन सही नहीं है?

- Ans
- 1. C, Q की पुत्री है।
 - 2. A, C का पुत्र है।
 - 3. Q, N की माता है।
 - 4. U, R के नाना है।

Question ID : 26433068948
Status : Not Answered
Chosen Option : --

Q.7 उस विकल्प का चयन कीजिए जो पांचवें अक्षर-समूह से उसी प्रकार संबंधित है जिस प्रकार दूसरा अक्षर-समूह पहले अक्षर-समूह से संबंधित है और चौथा अक्षर-समूह तीसरे अक्षर-समूह से संबंधित है।
FACTORY : AFTCYRO :: FASHION : AFHSNOI :: EXPLAIN : ?

- Ans
- 1. EXALPNI
 - 2. NIALPXE
 - 3. XELPNIA
 - 4. PLAINEX

Question ID : 26433069634
Status : Answered
Chosen Option : 3

Q.8 एक निश्चित कूट भाषा में, 'CHILL' को 'HDNHQ' और 'HARSH' को 'MWWOM' लिखा जाता है। उसी कूट भाषा में 'DEVIL' को किस प्रकार लिखा जाएगा?

- Ans
- 1. JBECQ
 - 2. IAAEQ
 - 3. JAERQ
 - 4. IBADQ

Question ID : 26433068142
Status : Not Answered
Chosen Option : --

Q.9 छः विद्यार्थी एक वृत्ताकार मेज के परितः मेज के केंद्र की ओर मुख करके बैठे हैं। A, C के बाईं ओर ठीक बगल में बैठा है। E, D के दाईं ओर तीसरे स्थान पर बैठा है। D, C के ठीक बगल में बैठा है। B, E और F दोनों के ठीक बगल में बैठा है। F के दाईं ओर ठीक बगल में कौन बैठा है?

- Ans
- 1. C
 - 2. B
 - 3. E
 - 4. D

Question ID : 26433079506
Status : Answered
Chosen Option : 2