

Constable (GD) in CAPFs, NIA, SSF and Rifleman (GD) in Assam Rifles Examination, 2018

Roll No.	
Registration No.	
Name	
Exam Venue :	
Exam Time :	9:00 AM - 10:30 AM
Exam Date :	11/02/2019

Section : General Section

Q.1 उस विकल्प का चयन करें जो XY रेखा पर दर्पण रखे जाने पर दिए गए शब्द की दर्पण छवि से सर्वाधिक मेल खाता है।



- Ans
- 1. EDA
 - 2. ACE
 - 3. ECA
 - 4. EJA

Question ID : 9895802421
Chosen Option : 1

Q.2 उस संख्या को पहचानें जो अन्य से भिन्न है।

- Ans
- 1. 196
 - 2. 121
 - 3. 256
 - 4. 252

Question ID : 9895802415
Chosen Option : 4

Q.3 उस विकल्प का चयन करें जो दी गई जोड़ी के अनुरूप है।

CD : HI

- Ans
- 1. AB : XY
 - 2. PQ : UV
 - 3. IJ : MN
 - 4. KL : NO

Q.4 विकल्पों में दिए गए चार परिवर्तनों में से कौन सा निम्नलिखित समीकरण को सही करेगा?

$$30 \times 3 - 3 = 13$$

- Ans
- 1. \times , \div में बदला जाये; $-$, $+$ में बदला जाये
 - 2. \times और $-$ आपस में बदले जाये
 - 3. \times , $+$ में बदला जाये; $-$, \div में बदला जाये
 - 4. \times और $-$ आपस में बदले जाये; 3 और 30 आपस में बदले जाये

Q.5 उस संख्या को पहचानें जो निम्न श्रृंखला से संबंधित नहीं है।


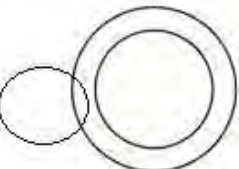
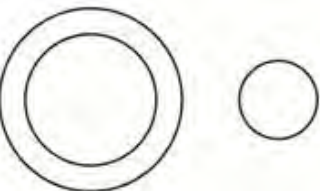
2, 9, 28, 64, 126, 217, 344, 513

- Ans
- 1. 28
 - 2. 344
 - 3. 513
 - 4. 64

Q.6 उस वेन रेखाचित्र का चयन करें जो नीचे दिए गए तीन वर्गों के बीच के संबंध को बेहतर रूप से दर्शाता हो।

विद्यालय, अध्यापक, छात्र

Ans

- 1. 
- 2. 
- 3. 

✓ 4.



Question ID : 9895802423
Chosen Option : 4

Q.7 पांच छात्र एक कतार में खड़े हैं। सुमन प्रणव के बगल में खड़ी है, लेकिन वह दीना के बगल में नहीं खड़ी है। कुमार राजू के बगल में खड़ा है, जो सबसे बाईं ओर खड़ा है, और दीना कुमार के बगल में नहीं खड़ी है। बीच में कौन खड़ा है?

- Ans
- ✓ 1. सुमन
 - ✗ 2. दीना
 - ✗ 3. राजू
 - ✗ 4. कुमार

Question ID : 9895802407
Chosen Option : 3

Q.8 निम्नलिखित में से असंगत को पहचानें।

- Ans
- ✗ 1. नीचे
 - ✗ 2. आगे
 - ✗ 3. ऊपर
 - ✓ 4. बड़ा

Question ID : 9895802400
Chosen Option : 4

Q.9 एक साइक्लिंग प्रतियोगिता में पांच छात्रों ने हिस्सा लिया। रॉबर्ट, मोनिश से पहले लेकिन गुंजन के बाद में आया। अनिल सुनील से पहले लेकिन मोनिश से बाद में रह गया। प्रतियोगिता किसने जीती?

- Ans
- ✗ 1. रॉबर्ट
 - ✓ 2. गुंजन
 - ✗ 3. मोनिश
 - ✗ 4. अनिल

Question ID : 9895802409
Chosen Option : 2

Q.1 यदि $D = 4$ और $G = 7$, तब $GARDEN =$ कितना होगा?

- Ans
- ✗ 1. 47
 - ✗ 2. 50

✗ 3. 40

✓ 4. 49

Question ID : 9895802405
Chosen Option : 4

Q.1
1 निम्नलिखित में से असंगत युग्म को पहचानें।

- Ans
- ✗ 1. मिश्र : कैरो
 - ✗ 2. इटली : रोम
 - ✓ 3. इराक : दीनार
 - ✗ 4. ग्रीस : एथेंस

Question ID : 9895802402
Chosen Option : 1

Q.1
2 नीचे दिए गए कथनों के बाद दो निष्कर्ष I और II दिए गए हैं। यह मानते हुए कि कथनों में दी गई जानकारी सत्य है, भले ही वह सर्वज्ञात तथ्यों से भिन्न प्रतीत होती हो, यह निर्णय करें कि कौन सा / से निष्कर्ष तार्किक और निश्चित रूप से कथन में दी गई जानकारी का अनुसरण करता है / करते हैं।

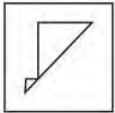
कथन:
कुछ गुड़िया फूल हैं।
कोई भी पेड़ गुड़िया नहीं है।

निष्कर्ष:
I. कोई गुड़िया पेड़ नहीं है।
II कुछ फूल पेड़ हैं।

- Ans
- ✗ 1. केवल निष्कर्ष II अनुसरण करता है।
 - ✗ 2. दोनों निष्कर्ष I और II अनुसरण करते हैं।
 - ✗ 3. न तो निष्कर्ष I और न ही निष्कर्ष II अनुसरण करता है।
 - ✓ 4. केवल निष्कर्ष I अनुसरण करता है।

Question ID : 9895802411
Chosen Option : 3

Q.1
3 उस विकल्प चित्र का चयन करें जिसमें प्रश्न चित्र छिपा / सन्निकित है। (घूर्णन की अनुमति नहीं है)

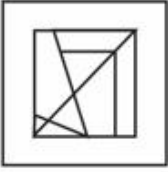


Ans

✗ 1.



2.



3.



4.



Question ID : 9895802420
Chosen Option : 3

Q.1 एक मंजिल पर छह कार्यालय क्रमशः A, B, C, D, E और F को आवंटित किया जाता है। ये कार्यालय दो कतारों में हैं, एक कतार का रुख उत्तर की ओर, तथा दूसरी कतार का रुख दक्षिण की ओर है। B को उत्तर-मुखी कार्यालय मिला जो कि D के बगल में नहीं है। D और F को तिरछे रूप से आमने-सामने कार्यालय मिले। C, जिसका कार्यालय F के बगल में है, को दक्षिण-मुखी कार्यालय मिला, और E को उत्तर-मुखी कार्यालय मिला। निम्नलिखित में से किस संयोजन को दक्षिण-मुखी कार्यालय मिले?

- Ans
- 1. ABC
 - 2. FAE
 - 3. FCA
 - 4. BED

Question ID : 9895802408
Chosen Option : 3

Q.1 निम्नलिखित संख्या श्रृंखला में, दो संख्याओं को कोष्ठक के भीतर रखा गया है। श्रृंखला का ध्यानपूर्वक अध्ययन करें और श्रृंखला के संबंध में सही विकल्प का चयन करें।

4, 6, 10, (12), 16, (14), 22

- Ans
- 1. पहली कोष्ठक संख्या (बाएं से) सही है और दूसरी गलत है।
 - 2. दोनों कोष्ठक संख्याएँ गलत हैं।
 - 3. पहली कोष्ठक संख्या (बाएं से) गलत है और दूसरी सही है।
 - 4. दोनों कोष्ठक संख्याएँ सही हैं।

Question ID : 9895802417
Chosen Option : 1

Q.1 निम्नलिखित श्रृंखला में अगली संख्या का चयन करें।

1, 3, 5, 11, 21, 43, 85, 171, _____

Ans

1. 342
 2. 354
 3. 247
 4. 341

Question ID : 9895802412
Chosen Option : 4

Q.1 7 यदि CHILDREN को कूट भाषा में LIHCNERD लिखा जाता है, तो MOVEMENT को कूट भाषा में कैसे लिखेंगे?

- Ans 1. EVOMTNEM
 2. EVOMTMEN
 3. EVOMMENT
 4. TNEMEVOM

Question ID : 9895802406
Chosen Option : 1

Q.1 8 निम्नलिखित श्रृंखला में आगे आने वाले अक्षर का चयन करें।

O, R, U, X, A, _____

- Ans 1. E
 2. C
 3. D
 4. B

Question ID : 9895802399
Chosen Option : 3

Q.1 9 दिए गए कथनों और निष्कर्षों को ध्यानपूर्वक पढ़ें और बताएँ कि कौन सा निष्कर्ष तार्किक रूप से कथनों का अनुसरण करता है।

कथन:
जापान में काम करने वाले सभी वैज्ञानिक प्रतिभाशाली हैं।
जापान में कुछ चीनी वैज्ञानिक काम कर रहे हैं।

निष्कर्ष:
I. कोई भी चीनी वैज्ञानिक प्रतिभाशाली नहीं है।
II. कुछ प्रतिभाशाली चीनी वैज्ञानिक जापान में काम कर रहे हैं।
III. सभी प्रतिभाशाली वैज्ञानिक जापानी हैं।
IV. कुछ चीनी वैज्ञानिक प्रतिभाशाली हैं।

- Ans 1. केवल निष्कर्ष II अनुसरण करता है।
 2. केवल निष्कर्ष I अनुसरण करता है।
 3. केवल निष्कर्ष III और IV अनुसरण करते हैं।
 4. केवल निष्कर्ष II और IV अनुसरण करते हैं।

Question ID : 9895802410

Q.2 उस विकल्प का चयन करें जो तीसरी संख्या से उसी प्रकार संबंधित है जिस प्रकार दूसरी संख्या पहली संख्या से संबंधित है।

11 : 169 :: 18 : _____

- Ans
- 1. 361
 - 2. 400
 - 3. 256
 - 4. 396

Question ID : 9895802414

Chosen Option : 2

Q.2 उस विकल्प का चयन करें जो तीसरे पद से उसी प्रकार संबंधित है, जिस प्रकार दूसरा पद पहले पद से संबंधित है।

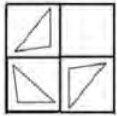
बैल : गाय :: शेर : _____

- Ans
- 1. पशुशावक
 - 2. शेरनी
 - 3. हिरणी
 - 4. घोड़ी

Question ID : 9895802404

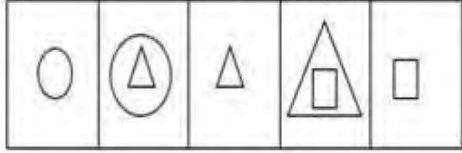
Chosen Option : 2

Q.2 उस विकल्प आकृति का चयन करें, जिसे प्रश्न की गयी आकृति के रिक्त स्थान में रखने पर आकृति पूर्ण हो जाएगी।



- Ans
- 1.
 - 2.
 - 3.
 - 4.

Q.2 निम्नलिखित श्रृंखला में आगे आने वाली आकृति का चयन करें।



Ans

- 1.
- 2.
- 3.
- 4.

Q.2 एक वर्गाकार पारदर्शी कागज एक पैटर्न के साथ दिया गया है। चार विकल्पों में से उस विकल्प का चयन करें, जो पारदर्शी कागज को बिंदु से बनाई गई रेखा पर मोड़ने से बनेगा।



Ans

- 1.
- 2.
- 3.
- 4.

Q.2
5 निम्नलिखित में से असंगत को पहचानें।

- Ans
- 1. DCBA
 - 2. ZYXW
 - 3. LKJI
 - 4. QRSP

Question ID : 9895802401
Chosen Option : 4

Q.2
6 मानव शरीर की सबसे लंबी हड्डी कौन सी है?

- Ans
- 1. रेडियस
 - 2. अल्ना
 - 3. टिबिया
 - 4. फीमर

Question ID : 9895802967
Chosen Option : 4

Q.2
7 नॉमिनल जीडीपी के आधार पर, भारत 2018 में विश्व की _____ सबसे बड़ी अर्थव्यवस्था है।

- Ans
- 1. तीसरी
 - 2. दसवीं
 - 3. पांचवी
 - 4. सातवी

Question ID : 9895802959
Chosen Option : 1

Q.2
8 सोवियत संघ वर्ष _____ में टूटा था।

- Ans
- 1. 1880
 - 2. 1900
 - 3. 2000
 - 4. 1991

Question ID : 9895802963
Chosen Option : 1

Q.2
9 नर्मदा नदी मध्यप्रदेश में _____ से निकलती है।

- Ans
- 1. अरावली की पहाड़ियों
 - 2. अमरकंटक की पहाड़ियों

3. नीलगिरी की पहाड़ियों

4. सतपुड़ा पर्वतश्रेणी

Question ID : 9895802972
Chosen Option : 2

Q.3
0 बैस्टिल जेल पर जनता के हमले कौन सी घटना को जन्म दिया?

Ans 1. फ्रांस की क्रांति

2. सोवियत संघ का विघटन

3. रूसी क्रांति

4. ज़ार के पतन

Question ID : 9895802973
Chosen Option : 4

Q.3
1 पत्तियों में मौजूद हरा रंग किस नाम से जाना जाता है?

Ans 1. क्लोरोफिल

2. टिस्सू

3. जाइलम

4. फ्लोएम

Question ID : 9895802966
Chosen Option : 1

Q.3
2 _____ भारतीय अर्थव्यवस्था का प्राथमिक क्षेत्र है।

Ans 1. बैंकिंग

2. न्यायतंत्र

3. कृषि

4. सूचना और प्रौद्योगिकी

Question ID : 9895802960
Chosen Option : 3

Q.3
3 _____ भारत का एक प्रमुख लौह अयस्क क्षेत्र है।

Ans 1. गुजरात-राजस्थान क्षेत्र

2. तामिलनाडु-छत्तीसगढ़ क्षेत्र

3. उत्तरप्रदेश-बिहार क्षेत्र

✓ 4. ओडिशा-झारखंड क्षेत्र

Question ID : 9895802971
Chosen Option : 4

Q.3
4 _____ को 'लाईट ऑफ एशिया (एशिया की ज्योती)' के रूप में भी जाना जाता है।

- Ans
- 1. रूमी
 - 2. बुद्ध
 - 3. गांधी
 - 4. स्वामी विवेकानंद

Question ID : 9895802956
Chosen Option : 2

Q.3
5 तमिलनाडु की प्रख्यात शास्त्रीय नृत्य शैली कौन सी है?

- Ans
- 1. भरतनाट्यम
 - 2. कुचीपुडु
 - 3. कथक
 - 4. मोहिनीअट्टम

Question ID : 9895802952
Chosen Option : 1

Q.3
6 भारत देश का सबसे छोटा राज्य कौन सा है?

- Ans
- 1. पंजाब
 - 2. गोआ
 - 3. सिक्किम
 - 4. त्रिपुरा

Question ID : 9895802970
Chosen Option : 2

Q.3
7 ओलंपिक में रजत पदक जीतने वाली पहली भारतीय महिला कौन हैं?

- Ans
- 1. पी.वी. सिंधु
 - 2. तन्वी लाड
 - 3. अरुंधति पंतावने
 - 4. सायना नेहवाल

Question ID : 9895802954
Chosen Option : 1

Q.3 निम्नलिखित में से कौन से स्थल पर 1920 में भारतीय राष्ट्रीय कांग्रेस की बैठक हुई?

- Ans
- 1. थिरुवनंतपुरम
 - 2. मुंबई
 - 3. नागपुर
 - 4. त्रिपुरा

Question ID : 9895802974
Chosen Option : 3

Q.3 श्रीलंका में गृहयुद्ध कब समाप्त हुआ?

- Ans
- 1. 2001
 - 2. 1909
 - 3. 2009
 - 4. 1800

Question ID : 9895802964
Chosen Option : 1

Q.4 जिन जेकस एक प्रसिद्ध _____ था।

- Ans
- 1. चित्रकार
 - 2. चिन्तक
 - 3. सम्राट
 - 4. चिकित्सक

Question ID : 9895802975
Chosen Option : 2

Q.4 लावणी कौन से राज्य का लोकनृत्य प्रकार है?

- Ans
- 1. बिहार
 - 2. महाराष्ट्र
 - 3. गुजरात
 - 4. राजस्थान

Question ID : 9895802953
Chosen Option : 2

Q.4 _____ एक पक्षी है, जो शांति का प्रतीक है।

- Ans
- 1. कबूतर

- 2. कौआ
- 3. मोर
- 4. उल्लू

Question ID : 9895802957
Chosen Option : 3

Q.4
3 निम्न में से कौन सा अंतःस्रावी तंत्र का हिस्सा नहीं है?

- Ans
- 1. लार ग्रंथि
 - 2. एड्रीनल ग्रंथि
 - 3. थाइमस
 - 4. पीनियल ग्रंथि

Question ID : 9895802969
Chosen Option : 3

Q.4
4 डीएनए का पूर्ण रूप क्या है?

- Ans
- 1. डिऑक्सीन्यूक्लिक एसिड
 - 2. डिऑक्सीराइबोन्यूक्लिक एसिड
 - 3. डिऑक्सीराइबन्यूट्रल एसिड
 - 4. डेल्टान्यूक्लिक एसिड

Question ID : 9895802968
Chosen Option : 2

Q.4
5 आर्किटेक्चर की जड़ने की तकनीक, पिएट्रा ड्युरा निम्नलिखित में से किस स्मारक में पायी जाती है?

- Ans
- 1. ताजमहल
 - 2. चार मीनार
 - 3. गेटवे ऑफ इंडिया
 - 4. इंडिया गेट

Question ID : 9895802976
Chosen Option : 2

Q.4
6 नमक का रासायनिक नाम क्या है?

- Ans
- 1. सोडियम कार्बोनेट
 - 2. हाइड्रोजन क्लोराइड
 - 3. सोडियम हाइड्रोजन कार्बोनेट

✓ 4. सोडियम क्लोराइड

Question ID : 9895802965
Chosen Option : 4

Q.4
7 जीएसटी का पूरा अर्थ क्या होता है?

- Ans
- ✗ 1. ग्रोथ एंड सर्विस टैक्स
 - ✗ 2. ग्रोथ एंड सेल टैक्स
 - ✓ 3. गुड्स एंड सर्विस टैक्स
 - ✗ 4. गुड्स एंड सेल्स टैक्स

Question ID : 9895802961
Chosen Option : 3

Q.4
8 _____ इंग्लिश चैनल तैरकर पार करने वाली पहली भारतीय महिला कौन हैं।

- Ans
- ✗ 1. सानिया मिर्जा
 - ✗ 2. शिखा टंडन
 - ✗ 3. शिवानी कटारिया
 - ✓ 4. आरती साहा

Question ID : 9895802955
Chosen Option : 2

Q.4
9 पुस्तक 'इंडिया 2020' _____ द्वारा लिखी गई है।

- Ans
- ✓ 1. डॉ. एपीजे अब्दुल कलाम
 - ✗ 2. प्रसून जोशी
 - ✗ 3. राम नाथ कोविंद
 - ✗ 4. प्रणब मुखर्जी

Question ID : 9895802958
Chosen Option : 4

Q.5
0 भारतीय जनतंत्र के संदर्भ में निम्नलिखित में से कौन सा कथन सही है?

- Ans
- ✓ 1. लोगों को अपने प्रतिनिधिओं को चुनने की अनुमति देता है।
 - ✗ 2. वित्तीय आपातकाल के किस्सों में लोगों को देश पर कब्जा कर लेने की अधिकार देता है।
 - ✗ 3. सेना को देश पर शासन करने की अनुमति देता है।

4.

लोगों को तीर्थ यात्रा के लिए कर भुगतान का आदेश देता है।

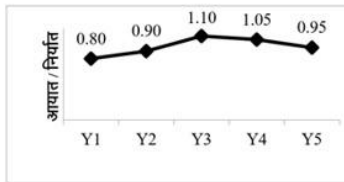
Question ID : 9895802962
Chosen Option : 1

Q.5 एक थैले में ₹1, ₹2 तथा ₹5 के मूल्य वर्ग के रूप में ₹420 हैं। ₹1, ₹2 तथा ₹5 के सिक्कों की संख्या 8 : 1 : 5 के अनुपात में हैं। थैले में ₹5 के कितने सिक्के हैं?

- Ans
- 1. 48
 - 2. 24
 - 3. 60
 - 4. 12

Question ID : 9895804064
Chosen Option : 2

Q.5 नीचे दिया गया रेखा चित्र 5 लगातार वर्षों Y₁, Y₂, Y₃, Y₄ तथा Y₅ के लिए एक देश के लिए आयात से निर्यात के अनुपात को दर्शाता है।



यदि वर्ष Y₃ के लिए निर्यात ₹35000 करोड़ है, तो वर्ष Y₃ के लिए आयात (करोड़ में) क्या होगा?

- Ans
- 1. ₹38500
 - 2. ₹41500
 - 3. ₹35500
 - 4. ₹43500

Question ID : 9895804077
Chosen Option : 2

Q.5 यदि P, Q से 40% कम है, तो Q, P से कितना प्रतिशत अधिक है?

- Ans
- 1. 40%
 - 2. 33.33%
 - 3. 60%
 - 4. 66.66%

Question ID : 9895804061
Chosen Option : 3

Q.5 यदि सोनू 20 मी./से. की गति से एक कार चला रहा है, तो सोनू 936 कि.मी. की दूरी को कितने समय में तय करेगा?

- Ans
- 1. 13 घंटे

2. 18 घंटे
3. 21 घंटे
4. 46.8 घंटे

Question ID : 9895804071
Chosen Option : 1

Q.5 एक वस्तु को 15% की छूट देने के पश्चात् ₹4777 में बेचा गया है। वस्तु का अंकित मूल्य क्या है?

- Ans 1. ₹5348
2. ₹5525
3. ₹5620
4. ₹5494

Question ID : 9895804059
Chosen Option : 3

Q.5 दो वस्तुओं का मूल्य क्रमशः 3 : 2 के अनुपात में है। पहली वस्तु का मूल्य 40% से बढ़ाया जाता है तथा दूसरी वस्तु का मूल्य $x\%$ से घटाया जाता है। यदि दोनों वस्तुओं के मूल्य का नया अनुपात क्रमशः 7 : 3 है, तो x का मान क्या है?

- Ans 1. 20
2. 15
3. 30
4. 10

Question ID : 9895804066
Chosen Option : 1

Q.5 $u : v = 4 : 7$ है तथा $v : w = 9 : 7$ है। यदि $u = 72$ है, तो w का मान क्या है?

- Ans 1. 49
2. 98
3. 77
4. 63

Question ID : 9895804065
Chosen Option : 2

Q.5 एक राशि साधारण ब्याज पर 5 वर्षों में ₹10650 तथा 6 वर्षों में ₹11076 हो जाती है। राशि क्या है?

- Ans 1. ₹8800
2. ₹8946
3. ₹8740
4. ₹8520

Question ID : 9895804067
Chosen Option : 4

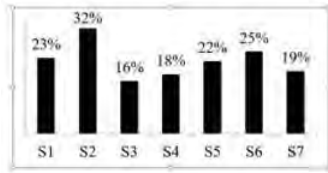
Q.5 मनीष ने ₹225 प्रति किताब की दर से किताबें खरीदी तथा ₹162 प्रति किताब की दर से उन्हें बेच दिया। 7 किताबें बेचने पर हानि क्या होगी?

- Ans
- 1. ₹28
 - 2. ₹441
 - 3. ₹315
 - 4. ₹63

Question ID : 9895804063

Chosen Option : 2

Q.6 नीचे दिए गए बार चार्ट में 7 विभिन्न मिठाईयाँ S1, S2, S3, S4, S5, S6 तथा S7 में उपयोग हुई चीनी की मात्रा मात्रा को मिठाई के कुल वजन के प्रतिशत के रूप में दर्शाया गया है।



मिठाई S4 का कुल वजन 150 कि.ग्रा. है। मिठाई S4 में प्रयुक्त चीनी की मात्रा कितनी है?

- Ans
- 1. 25 कि.ग्रा.
 - 2. 31 कि.ग्रा.
 - 3. 35 कि.ग्रा.
 - 4. 27 कि.ग्रा.

Question ID : 9895804078

Chosen Option : 4

Q.6 यदि पाँच निरीक्षणों a_1, a_2, a_3, a_4 तथा a_5 का औसत N है, तो पाँच नए निरीक्षणों $a_1 - 100, a_2 - 100, a_3 - 100, a_4 - 100$ तथा $a_5 - 100$ का औसत क्या होगा?

- Ans
- 1. $N - 40$
 - 2. $N - 20$
 - 3. $N - 150$
 - 4. $N - 100$

Question ID : 9895804058

Chosen Option : 2

Q.6 A अकेला एक कार्य को 6 दिन में पूरा कर सकता है तथा B अकेला समान कार्य को 8 दिन में पूरा कर सकता है। A तथा B दोनों मिलकर समान कार्य को कितने दिन में पूरा कर सकते हैं?

- Ans
- 1. 24/7 दिन
 - 2. 48/13 दिन
 - 3. 26/7 दिन
 - 4. 35/13 दिन

Question ID : 9895804069

Q.6 $5\frac{1}{2} - \left[3\frac{1}{4} + 6 - 4 \div 2\right]$ का मान क्या है?

- Ans
1. $\frac{-7}{4}$
2. $\frac{7}{4}$
3. $\frac{-5}{4}$
4. $\frac{5}{4}$

Question ID : 9895804055

Chosen Option : 1

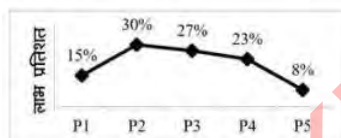
Q.6 राजेश 25 कि.मी./घंटा की गति से अपने दफ्तर जाता है तथा 20 कि.मी./घंटा की गति से अपने घर वापस आता है।
4 यदि वह कुल 9 घंटे लेता है, तो उसके दफ्तर तथा घर के मध्य दूरी क्या है?

- Ans
1. 100 कि.मी.
2. 90 कि.मी.
3. 140 कि.मी.
4. 120 कि.मी.

Question ID : 9895804072

Chosen Option : 4

Q.6 नीचे दिया गया रेखा चित्र एक कंपनी के 5 विभिन्न उत्पादों P1, P2, P3, P4 तथा P5 पर लाभ प्रतिशत को दर्शाता है।
5



उत्पाद P3 का राजस्व ₹38100 है। उत्पाद P3 का व्यय क्या है?

- Ans
1. ₹32000
2. ₹30000
3. ₹29000
4. ₹35000

Question ID : 9895804076

Chosen Option : 4

Q.6 अनिल, दीपक तथा दिनेश मिलकर एक कार्य को 35 दिन में पूरा कर सकते हैं। अनिल तथा दिनेश मिलकर समान
6 कार्य को 60 दिन में पूरा कर सकते हैं। दीपक अकेला समान कार्य को कितने दिन में पूरा कर सकता है?

- Ans
1. 84 दिन
2. 105 दिन
3. 96 दिन

✗ 4. 110 दिन

Question ID : 9895804070
Chosen Option : 2

Q.6 एक राशि चक्रवृद्धि ब्याज पर 3 वर्षों में स्वयं का 5 गुना हो जाती है (ब्याज का संयोजन वार्षिक किया गया है)।
7 कितने वर्षों में राशि स्वयं का 125 गुना हो जाएगी?

- Ans
- ✓ 1. 9
 - ✗ 2. 8
 - ✗ 3. 12
 - ✗ 4. 6

Question ID : 9895804068
Chosen Option : 1

Q.6 एक गेंदबाज ने लगातार 15 मैचों में 0, 3, 2, 1, 5, 3, 4, 5, 5, 2, 2, 0, 0, 1 और 2 विकेट लिए हैं।
8 दिए गए आंकड़ों का बहुलक क्या है?

- Ans
- ✓ 1. 2
 - ✗ 2. 3
 - ✗ 3. 5
 - ✗ 4. 0

Question ID : 9895804060
Chosen Option : 3

Q.6 $2^3 \times 3^5$ तथा $3^3 \times 5^2$ का महत्तम समापवर्तक क्या है?

- Ans
- ✗ 1. $2^1 \times 3^3 \times 5^1$
 - ✗ 2. $3^5 \times 5^2$
 - ✗ 3. $2^3 \times 3^5 \times 5^2$
 - ✓ 4. 3^3

Question ID : 9895804054
Chosen Option : 2

Q.7 यदि एक वस्तु का क्रय मूल्य ₹220 है तथा लाभ 20% है, तो वस्तु का विक्रय मूल्य क्या होगा?

- Ans
- ✗ 1. ₹256
 - ✗ 2. ₹216
 - ✓ 3. ₹264
 - ✗ 4. ₹176

Question ID : 9895804062
Chosen Option : 3

Q.7
1

$\left[10\frac{1}{3} \div \frac{5}{3} \text{ का } (10 + 14 \div 3 - 1)\right]$ का मान क्या है?

Ans

1. $\frac{33}{50}$

2. $\frac{93}{205}$

3. $\frac{29}{88}$

4. $\frac{31}{85}$

Question ID : 9895804056

Chosen Option : 2

Q.7 एक कमरे की लंबाई, चौड़ाई तथा ऊँचाई 21 मीटर, 12 मीटर तथा 16 मीटर है। उस कमरे में रखी जाने वाली सबसे बड़ी छड़ की लंबाई क्या होगी?

Ans

1. 25 मीटर

2. 32 मीटर

3. 29 मीटर

4. 31 मीटर

Question ID : 9895804074

Chosen Option : 3

Q.7 अध्यापक के वजन को शामिल करने पर 22 छात्रों के एक समूह का औसत वजन 1 कि.ग्रा. से बढ़ जाता है। यदि 22 छात्रों के समूह का आरंभिक औसत वजन 31 कि.ग्रा. था, तो अध्यापक का वजन क्या है?

Ans

1. 54 कि.ग्रा.

2. 53 कि.ग्रा.

3. 48 कि.ग्रा.

4. 57 कि.ग्रा.

Question ID : 9895804057

Chosen Option : 3

Q.7 एक शंकु की ऊँचाई 16 से.मी. है तथा उसके आधार की त्रिज्या 30 से.मी. है। यदि इसे रंगने की दर ₹14/से.मी.² है, तो शंकु को बाहर से रंगने में कुल खर्चा कितना होगा?

Ans

1. ₹36820

2. ₹42220

3. ₹46540

4. ₹44880

Question ID : 9895804075

Chosen Option : 3

Q.7

5 यदि एक वर्ग के विकर्ण की लंबाई $10\sqrt{2}$ से.मी. है, तो वर्ग का क्षेत्रफल क्या होगा?

- Ans
- 1. $100\sqrt{2}$ से.मी.²
 - 2. 100 से.मी.²
 - 3. 200 से.मी.²
 - 4. 50 से.मी.²

Question ID : 9895804073
Chosen Option : 3

Section : English Language

Q.1 Select the antonym of the given word.

EMANCIPATION

- Ans
- 1. riddance
 - 2. freedom
 - 3. liberty
 - 4. bondage

Question ID : 9895803559
Chosen Option : --

Q.2 Select the antonym of the given word.

AFFLICTION

- Ans
- 1. pleasure
 - 2. agony
 - 3. discomfort
 - 4. anguish

Question ID : 9895803560
Chosen Option : --

Q.3 Select the most appropriate word to fill in the blank.

1950 is _____ year in which India became a republic.

- Ans
- 1. a
 - 2. an
 - 3. the
 - 4. one

Question ID : 9895803548
Chosen Option : --

Q.4 Select the option that means the same as the given idiom.

To jump on the bandwagon

- Ans
- 1. To take a calculated risk
 - 2. To follow popular trends
 - 3. To fall into misfortune
 - 4. To run after the unachievable

Question ID : 9895803561

Chosen Option : --

Q.5 Select the most appropriate word to fill in the blank.

The judge found him _____ of murder.

- Ans
- 1. criminal
 - 2. honest
 - 3. innocent
 - 4. guilty

Question ID : 9895803550

Chosen Option : --

Q.6 From the given options, identify the segment in the sentence which contains the grammatical error.

He will not be able to attend the school function tomorrow, will you?

- Ans
- 1. to attend
 - 2. will you?
 - 3. the school function
 - 4. will not be

Question ID : 9895803545

Chosen Option : --

Q.7 Select the correctly spelt word.

- Ans
- 1. Businnes
 - 2. Bussiness
 - 3. Buisness
 - 4. Business

Question ID : 9895803566

Chosen Option : --

Q.8 Select the most appropriate option to substitute the underlined segment in the given sentence. If there is no need to substitute it, select No Improvement.

Mumbai has a lot of heritage structures which badly need restoration.

- Ans
- 1. lot of
 - 2. No improvement
 - 3. many of
 - 4. few of

Question ID : 9895803567
Chosen Option : --

Q.9 Select the most appropriate option to substitute the underlined segment in the given sentence. If there is no need to substitute it, select No Improvement.

A young taxi driver has claimed that a monster attacked him while he drove along a lonely road.

- Ans
- 1. while he is driving
 - 2. as long as he drove
 - 3. while he was driving
 - 4. No improvement

Question ID : 9895803568
Chosen Option : --

Q.1
0 Select the synonym of the given word.

MAGNIFICENT

- Ans
- 1. expensive
 - 2. grand
 - 3. huge
 - 4. modest

Question ID : 9895803558
Chosen Option : --

Q.1
1 Select the synonym of the given word.

SUITABLE

- Ans
- 1. ideal
 - 2. appropriate
 - 3. awkward
 - 4. friendly

Question ID : 9895803557
Chosen Option : --

Q.1
2 Select the most appropriate word to fill in the blank.

Shall we _____ his invitation to dinner.

- Ans
- 1. except
 - 2. accept
 - 3. expect
 - 4. agree

Question ID : 9895803549
Chosen Option : --

Q.1
3 Select the option that means the same as the following phrase.

One who is outgoing

- Ans
- 1. vagabond
 - 2. explorer
 - 3. extrovert
 - 4. introvert

Question ID : 9895803564
Chosen Option : --

Comprehension:

In the following passage some words have been deleted. Fill in the blanks with the help of the alternatives given.

Generations of women in the southern Indian state of Tamil Nadu have been diving to _____ (1) seaweed to help support their families _____ (2) women head to the sea on _____ (3) unique quest.

Clad in traditional saris and goggles, they _____ (4) into the ocean to collect coral and seaweed _____ (5) grow on underwater rocks. Seaweed is used in food and to make various drugs and chemicals.

SubQuestion No : 14

Q.1
4 Select the most appropriate option that will fill in the blank number 1.

- Ans
- 1. build
 - 2. collect
 - 3. assemble
 - 4. grow

Question ID : 9895803552
Chosen Option : --

Comprehension:

In the following passage some words have been deleted. Fill in the blanks with the help of the alternatives given.

Generations of women in the southern Indian state of Tamil Nadu have been diving to _____ (1) seaweed to help support their families _____ (2) women head to the sea on _____ (3) unique quest.

Clad in traditional saris and goggles, they _____ (4) into the ocean to collect coral and seaweed _____ (5) grow on underwater rocks. Seaweed is used in food and to make various drugs and chemicals.

SubQuestion No : 15

Q.1
5 Select the most appropriate option that will fill in the blank number 2.

- Ans
- 1. This
 - 2. Those
 - 3. These
 - 4. That

Question ID : 9895803553

Chosen Option : --

Comprehension:

In the following passage some words have been deleted. Fill in the blanks with the help of the alternatives given.

Generations of women in the southern Indian state of Tamil Nadu have been diving to _____ (1) seaweed to help support their families _____ (2) women head to the sea on _____ (3) unique quest.

Clad in traditional saris and goggles, they _____ (4) into the ocean to collect coral and seaweed _____ (5) grow on underwater rocks. Seaweed is used in food and to make various drugs and chemicals.

SubQuestion No : 16

Q.1
6 Select the most appropriate option that will fill in the blank number 3.

- Ans
- 1. an
 - 2. a
 - 3. the
 - 4. any

Question ID : 9895803554

Chosen Option : --

Comprehension:

In the following passage some words have been deleted. Fill in the blanks with the help of the alternatives given.

Generations of women in the southern Indian state of Tamil Nadu have been diving to _____ (1) seaweed to help support their families _____ (2) women head to the sea on _____ (3) unique quest.

Clad in traditional saris and goggles, they _____ (4) into the ocean to collect coral and seaweed _____ (5) grow on underwater rocks. Seaweed is used in food and to make various drugs and chemicals.

SubQuestion No : 17

Q.1
7 Select the most appropriate option that will fill in the blank number 4.

- Ans
- 1. dive
 - 2. fall
 - 3. float
 - 4. swim

Question ID : 9895803555
Chosen Option : --

Comprehension:

In the following passage some words have been deleted. Fill in the blanks with the help of the alternatives given.

Generations of women in the southern Indian state of Tamil Nadu have been diving to _____ (1) seaweed to help support their families _____ (2) women head to the sea on _____ (3) unique quest.

Clad in traditional saris and goggles, they _____ (4) into the ocean to collect coral and seaweed _____ (5) grow on underwater rocks. Seaweed is used in food and to make various drugs and chemicals.

SubQuestion No : 18

Q.1
8 Select the most appropriate option that will fill in the blank number 5.

- Ans
- 1. which
 - 2. whom
 - 3. who
 - 4. what

Question ID : 9895803556
Chosen Option : --

Q.1
9 Select the most appropriate option to substitute the underlined segment in the given sentence. If there is no need to substitute it, select No Improvement.

The torch fall from his trembling hand and he ran wildly towards the school building.

- Ans
- 1. falling from his trembling hand

- 2. fell from his trembling hand
- 3. felled from his trembling hand
- 4. No improvement

Question ID : 9895803569
Chosen Option : --

Q.2
0 Select the correctly spelt word.

- Ans
- 1. Reseipt
 - 2. Receipt
 - 3. Receipt
 - 4. Receit

Question ID : 9895803565
Chosen Option : --

Q.2
1 Select the word which means the same as the group of words given.

One who talks a lot

- Ans
- 1. glutton
 - 2. taciturn
 - 3. gullible
 - 4. loquacious

Question ID : 9895803563
Chosen Option : --

Q.2
2 From the given options, identify the segment in the sentence which contains the grammatical error:

Many students thought that this year's question paper was very tough as compared to last year.

- Ans
- 1. compared to last year
 - 2. was very tough
 - 3. that this year's
 - 4. Many students thought

Question ID : 9895803544
Chosen Option : --

Q.2
3 From the given options, identify the segment in the sentence which contains the grammatical error:

The TV anchor insisted on me to participate in the debate.

- Ans
- 1. insisted on me
 - 2. The TV anchor
 - 3. in the debate

4. to participate

Question ID : 9895803546
Chosen Option : --

Q.2
4 Select the most appropriate word to fill in the blank.

Let's go out now. It isn't _____ anymore.

- Ans
- 1. raining
 - 2. rain
 - 3. rains
 - 4. rained

Question ID : 9895803547
Chosen Option : --

Q.2
5 Select the option that means the same as the given idiom.

To pay through the nose

- Ans
- 1. To pay willingly
 - 2. To pay easily
 - 3. To pay excessively
 - 4. To pay reluctantly

Question ID : 9895803562
Chosen Option : --

Section : Hindi Language

Q.1 दिए गए वाक्य का वह भाग ज्ञात करें जिसमें कोई त्रुटि है।

हम जानते हैं कि परिश्रम का फल सदा ही मीठा होती है।

- Ans
- 1. परिश्रम का फल
 - 2. मीठा होती है।
 - 3. सदा ही
 - 4. हम जानते हैं कि

Question ID : 9895803416
Chosen Option : 2

Q.2 सही वर्तनी वाले शब्द का चयन करें।

- Ans
- 1. शौकाकुल

✓ 2. शोकाकुल

✗ 3. शोककुल

✗ 4. शौककुल

Question ID : 9895803439
Chosen Option : 2

Q.3 सही वर्तनी वाले शब्द का चयन करें।

Ans ✗ 1. मोखिक

✓ 2. मौखिक

✗ 3. मौकिख

✗ 4. मौखीक

Question ID : 9895803438
Chosen Option : 2

Q.4 रिक्त स्थान को भरने के लिए सबसे उपयुक्त शब्द का चयन करें।

बूढ़ा आदमी अपने _____ से दुःखी है।

Ans ✗ 1. प्रशंसा

✗ 2. बचपन

✓ 3. बुढ़ापे

✗ 4. जवानी

Question ID : 9895803422
Chosen Option : 3

Q.5 दिए गए शब्द का विलोम चुनें।

योग्य

Ans ✓ 1. अयोग्य

✗ 2. मूर्ख

✗ 3. सौभाग्य

✗ 4. सुयोग्य

Question ID : 9895803430
Chosen Option : 1

Q.6

दिए गए शब्द के पर्यायवाची शब्द का चयन करें।

अर्जुन

- Ans
- 1. जगदीश
 - 2. शमशीर
 - 3. धनंजय
 - 4. कोविंद

Question ID : 9895803432
Chosen Option : 3

Q.7 दिए गए वाक्य का वह भाग ज्ञात करें जिसमें कोई त्रुटि है।

मोहन ने रूप्यों का प्रबन्ध अपनी पत्नी की गहने बेच कर किया।

- Ans
- 1. बेच कर किया
 - 2. अपनी पत्नी की गहने
 - 3. रूप्यों का प्रबन्ध
 - 4. मोहन ने

Question ID : 9895803414
Chosen Option : 2

Q.8 निम्नलिखित में से उस विकल्प का चयन करें जो 'अंग-अंग ढीला होना' मुहावरे का अर्थ व्यक्त करता है।

- Ans
- 1. दुखी होना
 - 2. निराश होना
 - 3. अत्यधिक थक जाना
 - 4. हार जाना

Question ID : 9895803434
Chosen Option : 3

Q.9 दिये गये वाक्यांश के लिए एक शब्द चुनिए ।

जो जन्म से अंधा हो

- Ans
- 1. अंधभक्त
 - 2. कृपांध
 - 3. दुष्टांध
 - 4. जन्मांध

Q.1
0 दिए गए वाक्य में रेखांकित खंड को प्रतिस्थापित करने के लिए सबसे उपयुक्त विकल्प का चयन करें।

शीला मेरी बहन है, वह बच्चों के साथ खेल रहा है।

- Ans
- 1. बच्चों के साथ खेल रहे हैं।
 - 2. बच्चों के साथ खेल रही है।
 - 3. बच्चों को साथ खेल रही है।
 - 4. बच्चों से साथ खेल रही है।

Q.1
1 दिए गए वाक्य का वह भाग ज्ञात करें जिसमें कोई त्रुटि है।

आजकल तापमान में तेजी से परिवर्तन हो रही है।

- Ans
- 1. परिवर्तन हो रही है।
 - 2. तापमान में
 - 3. आजकल
 - 4. तेजी से

Q.1
2 दिए गए शब्द के पर्यायवाची शब्द का चयन करें।

कुबेर

- Ans
- 1. यमराज
 - 2. महाराज
 - 3. यक्षराज
 - 4. गिरिराज

Q.1
3 रिक्त स्थान को भरने के लिए सबसे उपयुक्त शब्द का चयन करें।

वसंत पंचमी के दिन देवी से _____ की जाती है।

- Ans
- 1. पूजा
 - 2. आवाहन
 - 3. प्रार्थना

4. प्रसन्नता

Question ID : 9895803423
Chosen Option : 3

Q.1 4 दिए गए वाक्य में रेखांकित खंड को प्रतिस्थापित करने के लिए सबसे उपयुक्त विकल्प का चयन करें।

कन्या की सुपात्रता का मापदंड केवल दहेज के स्वरूप से तय करना जाने लगा है।

- Ans
- 1. स्वरूप से तय करने जाने लगे हैं।
 - 2. स्वरूप से तय करने जाने लगे है।
 - 3. स्वरूप से तय हुआ जाने लगा है।
 - 4. स्वरूप से तय किया जाने लगा है।

Question ID : 9895803417
Chosen Option : 4

Q.1 5 रिक्त स्थान को भरने के लिए सबसे उपयुक्त शब्द का चयन करें।

मेरी बस _____ गई थी।

- Ans
- 1. छूट
 - 2. सो
 - 3. मर
 - 4. उड़

Question ID : 9895803421
Chosen Option : 1

Q.1 6 दिए गए वाक्य में रेखांकित खंड को प्रतिस्थापित करने के लिए सबसे उपयुक्त विकल्प का चयन करें।

गणतन्त्र दिवस की परेड में सैनिक कदम तालें कर रहे हैं।

- Ans
- 1. सैनिक कदम-ताल कर रहे हैं।
 - 2. सैनिक कदमों तालों कर रहा है।
 - 3. सैनिक कदमों-ताल कर रहे हैं।
 - 4. सैनिक कदम तालों कर रहा है।

Question ID : 9895803418
Chosen Option : 1

Q.1 7 रिक्त स्थान को भरने के लिए सबसे उपयुक्त शब्द का चयन करें।

आकाश में _____ चमक रहा है।

- Ans
- 1. तारा
 - 2. सोना

3. बादल

4. चाँदी

Question ID : 9895803420
Chosen Option : 1

Q.1 निम्नलिखित में से उस विकल्प का चयन करें जो 'अंधे के हाथ बटेर लगना' मुहावरे का अर्थ व्यक्त करता है।

Ans 1. बिना प्रयास के कीमती वस्तु मिल जाना

2. सफल होना

3. अयोग्य होना

4. प्रयास से कीमती वस्तु मिलना

Question ID : 9895803435
Chosen Option : 1

Q.1 दिए गए शब्द का विलोम चुनें।

यश

Ans 1. नीरस

2. नीरव

3. अपयश

4. सुयश

Question ID : 9895803431
Chosen Option : 3

Q.2 दिये गये वाक्यांश के लिए एक शब्द चुनिए ।

जो मोक्ष चाहता हो

Ans 1. मुमुक्षु

2. अमोक्षीय

3. मोक्षालु

4. मोक्षप्रिय

Question ID : 9895803437
Chosen Option : 1

Comprehension:

दिए गए अनुच्छेद में कुछ शब्द हटा दिए गए हैं। दिए गए विकल्पों की सहायता से रिक्त स्थान भरें। प्रत्येक संख्या के लिए सबसे उपयुक्त विकल्प का चयन करें।

आज अनेक भाषाओं में अनेक समाचार-पत्र बाजार में उपलब्ध हैं। मनुष्य की _____ (1) विशेषता है उसका _____ (2) होना। रात्रि में वह चैन की नींद सोकर प्रातः काल उठता है तो शीघ्र ही अपने आस-पास के वातावरण के बारे में जानने का _____ (3) करता है। चाय की _____ (4) के साथ देश - विदेश की खबरों को जानने के लिए वह _____ (5) का सहारा लेता है।

SubQuestion No : 21

Q.2
1 गद्यांश में संकेतित रिक्त स्थान (1) के लिए उपयुक्त शब्द होगा -

- Ans
- 1. आराम
 - 2. नींद
 - 3. व्यक्ति
 - 4. स्वभावगत

Question ID : 9895803425
Chosen Option : 4

Comprehension:

दिए गए अनुच्छेद में कुछ शब्द हटा दिए गए हैं। दिए गए विकल्पों की सहायता से रिक्त स्थान भरें। प्रत्येक संख्या के लिए सबसे उपयुक्त विकल्प का चयन करें।

आज अनेक भाषाओं में अनेक समाचार-पत्र बाजार में उपलब्ध हैं। मनुष्य की _____ (1) विशेषता है उसका _____ (2) होना। रात्रि में वह चैन की नींद सोकर प्रातः काल उठता है तो शीघ्र ही अपने आस-पास के वातावरण के बारे में जानने का _____ (3) करता है। चाय की _____ (4) के साथ देश - विदेश की खबरों को जानने के लिए वह _____ (5) का सहारा लेता है।

SubQuestion No : 22

Q.2
2 गद्यांश में संकेतित रिक्त स्थान (2) के लिए उपयुक्त शब्द होगा -

- Ans
- 1. जिज्ञासु
 - 2. संपादक
 - 3. बिक्री
 - 4. संकेत

Question ID : 9895803426
Chosen Option : 1

Comprehension:

दिए गए अनुच्छेद में कुछ शब्द हटा दिए गए हैं। दिए गए विकल्पों की सहायता से रिक्त स्थान भरें। प्रत्येक संख्या के लिए सबसे उपयुक्त विकल्प का चयन करें।

आज अनेक भाषाओं में अनेक समाचार-पत्र बाजार में उपलब्ध हैं। मनुष्य की _____ (1) विशेषता है उसका _____ (2) होना। रात्रि में वह चैन की नींद सोकर प्रातः काल उठता है तो शीघ्र ही अपने आस-पास के वातावरण के बारे में जानने का _____ (3) करता है। चाय की _____ (4) के साथ देश - विदेश की खबरों को जानने के लिए वह _____ (5) का सहारा लेता है।

SubQuestion No : 23

Q.2
3 गद्यांश में संकेतित रिक्त स्थान (3) के लिए उपयुक्त शब्द होगा -

- Ans
- 1. प्रयास
 - 2. अनुभव
 - 3. प्रतीक्षा
 - 4. खबर

Question ID : 9895803427
Chosen Option : 1

Comprehension:

दिए गए अनुच्छेद में कुछ शब्द हटा दिए गए हैं। दिए गए विकल्पों की सहायता से रिक्त स्थान भरें। प्रत्येक संख्या के लिए सबसे उपयुक्त विकल्प का चयन करें।

आज अनेक भाषाओं में अनेक समाचार-पत्र बाजार में उपलब्ध हैं। मनुष्य की _____ (1) विशेषता है उसका _____ (2) होना। रात्रि में वह चैन की नींद सोकर प्रातः काल उठता है तो शीघ्र ही अपने आस-पास के वातावरण के बारे में जानने का _____ (3) करता है। चाय की _____ (4) के साथ देश - विदेश की खबरों को जानने के लिए वह _____ (5) का सहारा लेता है।

SubQuestion No : 24

Q.2
4 गद्यांश में संकेतित रिक्त स्थान (4) के लिए उपयुक्त शब्द होगा -

- Ans
- 1. टुकड़ों
 - 2. कपड़ों
 - 3. बरतन
 - 4. चुस्कियों

Comprehension:

दिए गए अनुच्छेद में कुछ शब्द हटा दिए गए हैं। दिए गए विकल्पों की सहायता से रिक्त स्थान भरें। प्रत्येक संख्या के लिए सबसे उपयुक्त विकल्प का चयन करें।

आज अनेक भाषाओं में अनेक समाचार-पत्र बाजार में उपलब्ध हैं। मनुष्य की _____ (1) विशेषता है उसका _____ (2) होना। रात्रि में वह चैन की नींद सोकर प्रातः काल उठता है तो शीघ्र ही अपने आस-पास के वातावरण के बारे में जानने का _____ (3) करता है। चाय की _____ (4) के साथ देश - विदेश की खबरों को जानने के लिए वह _____ (5) का सहारा लेता है।

SubQuestion No : 25

Q.2
5 गद्यांश में संकेतित रिक्त स्थान (5) के लिए उपयुक्त शब्द होगा -

- Ans
- 1. खेलों
 - 2. समाचार पत्र
 - 3. गानों
 - 4. फिल्मों

Constable (GD) in CAPFs, NIA, SSF and Rifleman (GD) in Assam Rifles Examination, 2018

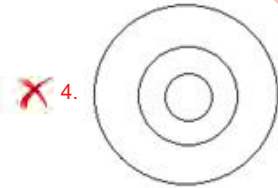
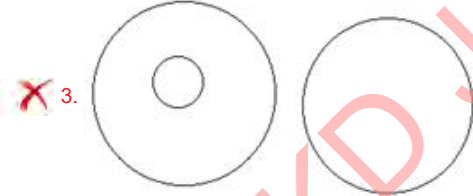
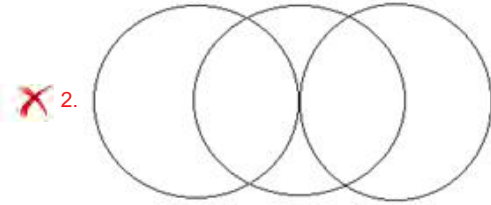
Roll No. :	
Registration No.	
Name :	
Exam Venue :	
Exam Time :	4:00 PM - 5:30 PM
Exam Date :	11/02/2019

Section : General Section

Q.1 उस वेन आरेख का चयन करें जो दिए गए वर्गों को बेहतर ढंग से दर्शाता है।

धातु, चांदी, सोना

Ans

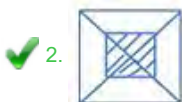


Question ID : 9895802498
Chosen Option : 1

Q.2 विकल्पों में से उस आकृति की पहचान करें, जिसमें दी गई आकृति अंतर्निहित है।



Ans





Question ID : 9895802495
Chosen Option : 2

Q.3 छह मित्र P, Q, R, S, T और U केंद्र की ओर देखते हुए एक गोलाकार मेज पर बैठे हैं। S, T के बाएं ओर तीसरा है। R, T और U के बीच में नहीं बैठा है। S, R के ठीक बगल में नहीं है। Q, T के दाएं दूसरा है। U और Q के बीच कौन बैठा है?

- Ans
- 1. T
 - 2. R
 - 3. S
 - 4. P

Question ID : 9895802483
Chosen Option : 2

Q.4 यदि किसी कूट भाषा में TERRACE को 70 के रूप में लिखा जाता है, तो उसी कूट भाषा में BALCONY को कैसे लिखा जाएगा?

- Ans
- 1. 74
 - 2. 72
 - 3. 73
 - 4. 71

Question ID : 9895802481
Chosen Option : 2

Q.5 असंगत का चयन करें।

- Ans
- 1. IOU
 - 2. AEI
 - 3. OUA
 - 4. FGH

Question ID : 9895802475
Chosen Option : 4

Q.6 निम्नलिखित शब्द की दर्पण छवि को पहचानें जब दर्पण दाईं ओर रखा गया हो।

INSOMNIA

- Ans
- 1. IΛOZMNIΛ
 - 2. AINMZOIN
 - 3. AINMZOIN
 - 4. IΛOZMNIΛ

Question ID : 9895802496
Chosen Option : 3

Q.7

यदि किसी कूट भाषा में POLITICAL को QNMHUHDZM के रूप में लिखा जाता है, तो उसी कूट भाषा में SOCIAL को कैसे लिखा जाएगा?

- Ans
- 1. DHBKTN
 - 2. NTHDBK
 - 3. TNDHBK
 - 4. DBKNTH

Question ID : 9895802480
Chosen Option : 3

Q.8 संख्या ट्रायड को पूरा करें।

12	20	28
21	19	?
31	21	11

- Ans
- 1. 15
 - 2. 17
 - 3. 12
 - 4. 8

Question ID : 9895802491
Chosen Option : 2

Q.9 उस विकल्प का चयन करें जो तीसरे पद से उसी प्रकार संबंधित है जिस प्रकार दूसरा पद पहले पद से संबंधित है।

144 : 12 :: 576 : ?

- Ans
- 1. 24
 - 2. 21
 - 3. 28
 - 4. 26

Question ID : 9895802489
Chosen Option : 1

Q.1 दी गई श्रृंखला में अगली संख्या ज्ञात करें।

101, 123, 147, 173, ?

- Ans
- 1. 214
 - 2. 201
 - 3. 223
 - 4. 236

Question ID : 9895802488
Chosen Option : 2

Q.1 A, B, C, D, E और F छह मित्र एक लंबी बेंच पर बैठे हैं। E और F बीच में हैं, जबकि A और B दो अंतिम छोरों पर बैठे हैं। C, A के ठीक बगल में बाएं तरफ बैठा है। क्या आप बता सकते हैं कि B के ठीक दाएं और कौन बैठा है?

- Ans
- 1. D

2. F 3. C 4. E

Question ID : 9895802482
Chosen Option : 1

Q.1
2 असंगत का चयन करें।

Ans 1. समझाना / महसूस करना

 2. अज्ञान 3. पता लगाना 4. अवलोकन करना

Question ID : 9895802476
Chosen Option : 2

Q.1
3 दी गई श्रृंखला में अगली संख्या ज्ञात करें।

2, 10, 84, ?

Ans 1. 1028

 2. 1229 3. 1124 4. 1032

Question ID : 9895802487
Chosen Option : 1

Q.1
4 चार संख्याएँ दी गई हैं जिनमें से तीन संख्याएँ किसी न किसी रूप में समान हैं, जबकि एक संख्या भिन्न है। असंगत संख्या चुनिए।

Ans 1. 72

 2. 96 3. 48 4. 68

Question ID : 9895802490
Chosen Option : 4

Q.1
5 उस विकल्प का चयन करें जो दिए गए युग्म का सदृश है।

हृदय : कार्डियोलॉजी

Ans 1. शैवाल विज्ञान : कवक

 2. रोग : अस्पताल 3. पौधे : वनस्पति शास्त्र 4. वायरस : वाइरलजी

Question ID : 9895802478
Chosen Option : 1

Q.1

6 कौन सा विकल्प प्रश्न चिह्न (?) के स्थान पर आएगा और दी गई आकृति श्रृंखला को पूरा करेगा?

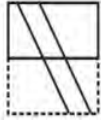


Ans

- 1.
- 2.
- 3.
- 4.

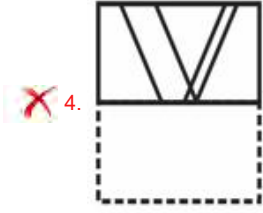
Question ID : 9895802493
Chosen Option : 4

Q.1 पैटर्न का साथ एक वर्गाकार पारदर्शी कागज पत्रक दिया गया है। पारदर्शी कागज पत्रक को बिंदुंकित रेखा पर मोड़े जाने पर पैटर्न कैसा दिखाई देगा?



Ans

- 1.
- 2.
- 3.



4.

Question ID : 9895802497
Chosen Option : 1

Q.1 निम्नलिखित समीकरण का मान क्या होगा यदि '+' का अर्थ 'जोड़' है, '-' का अर्थ 'घटाव' है, '.' का अर्थ 'गुणा' है और 'x' का अर्थ 'भाग' है तो निम्नलिखित समीकरण का मान क्या होगा?

$$49 \times 7 - 3 \div 9 + 4 = ?$$

- Ans 1. 39
 2. 26
 3. 35
 4. 31

Question ID : 9895802492
Chosen Option : 2

Q.1 पांच आदमी P, Q, R S और T एक अखबार पढ़ रहे हैं।

अखबार को पहले पढ़ने वाला इसे T को देता है। अंत में पढ़ने वाला इसे R से लिया था। Q इसे पढ़ने वाला पहला या अंतिम नहीं है। P और R के बीच दो पढ़ने वाले थे। अखबार पढ़ने वाला तीसरा कौन है?

- Ans 1. S
 2. Q
 3. P
 4. R

Question ID : 9895802484
Chosen Option : 1

Q.2 उस विकल्प का चयन करें जो तीसरे पद से उसी तरह संबंधित है जिस तरह दूसरा पद पहले पद से संबंधित है।

PURSE : UPRES :: RAZOR : ?

- Ans 1. AZROR
 2. AROZR
 3. ARRZO
 4. ARZRO

Question ID : 9895802479
Chosen Option : 4

Q.2
1

नीचे दिए गए कथनों के बाद दो निष्कर्ष I और II दिए गए हैं। यह मानते हुए कि कथनों में दी गई जानकारी सत्य है, भले ही वह सर्वज्ञात तथ्यों से भिन्न प्रतीत होती हो और यह निर्णय करें कि कौन सा / से निष्कर्ष तार्किक और निश्चित रूप से कथन में दी गई जानकारी का अनुसरण करता है / करते हैं।

कथन:

- 1) सभी महिलाएं लड़कियां हैं।
- 2) कुछ लड़कियां चित्रकार हैं।

निष्कर्ष:

- I. सभी लड़कियां महिलाएं हैं।
- II. कुछ महिलाएं चित्रकार हैं।

Ans

1. निष्कर्ष I और II दोनों अनुसरण करते हैं।
2. केवल निष्कर्ष I अनुसरण करता है।
3. केवल निष्कर्ष II अनुसरण करता है।
4. न तो निष्कर्ष I और न ही निष्कर्ष II अनुसरण करता है।

Question ID : 9895802485
Chosen Option : 1

Q.2
2

नीचे दिए गए कथनों के बाद दो निष्कर्ष I और II दिए गए हैं। यह मानते हुए कि कथनों में दी गई जानकारी सत्य है, भले ही वह सर्वज्ञात तथ्यों से भिन्न प्रतीत होती हो और यह निर्णय करें कि कौन सा / से निष्कर्ष तार्किक और निश्चित रूप से कथन में दी गई जानकारी का अनुसरण करता है / करते हैं।

कथन:

- 1) कुछ बिल्लियाँ बकरियाँ हैं।
- 2) सभी बकरियाँ गाय हैं।

निष्कर्ष:

- I. सभी गायें बकरियाँ हैं।
- II. कुछ बिल्लियाँ गाय हैं।

Ans

1. केवल निष्कर्ष I अनुसरण करता है।
2. या तो निष्कर्ष I या II अनुसरण करता है।
3. दोनों निष्कर्ष I और II अनुसरण करते हैं।
4. केवल निष्कर्ष II अनुसरण करता है।

Question ID : 9895802486
Chosen Option : 1

Q.2 वह विकल्प चुनें जो प्रश्न चिह्न (?) के स्थान पर आएगा और दिए गए पैटर्न को पूरा करेगा।



Ans

- 1.
- 2.
- 3.
- 4.

Question ID : 9895802494

Chosen Option : 4

Q.2
4 उन अक्षर युग्म का चयन करें जो दी गई श्रृंखला में अगला आएगा।

AB, GH, MN, ST, ?

- Ans
- 1. UV
 - 2. YZ
 - 3. VW
 - 4. XY

Question ID : 9895802474
Chosen Option : 4

Q.2
5 निम्नलिखित में से असंगत गुग्म का चयन करें।

- Ans
- 1. फूल : गुलदस्ता
 - 2. अंगूर : गुच्छा
 - 3. मधुमक्खियाँ : झुंड
 - 4. आदमी : कक्षा

Question ID : 9895802477
Chosen Option : 4

Q.2
6 नीली क्रांति _____ से संबंधित है।

- Ans
- 1. नील उत्पादन
 - 2. जूट उत्पादन
 - 3. मत्स्य उत्पादन
 - 4. कृषि

Question ID : 9895803063
Chosen Option : 3

Q.2
7 भारतीय रेगिस्तान _____ पश्चिमी क्षेत्र में स्थित है।

- Ans
- 1. नीलगिरी की पहाड़ियां
 - 2. अरावली की पहाड़ियां
 - 3. हिमाद्री
 - 4. कैमूर की पहाड़ियां

Question ID : 9895803059
Chosen Option : 2

Q.2
8 सर्वश्रेष्ठ अभिनेत्री के लिए 2018 के राष्ट्रीय फिल्म पुरस्कार से किसे सम्मानित किया गया?

- Ans
- 1. कैटरिना कैफ़
 - 2. श्रीदेवी

3. आलिया भट्ट
4. दीपिका पादुकोण

Question ID : 9895803072
Chosen Option : 2

Q.2
9 भारतीय रिजर्व बैंक के गवर्नर कौन थे जिन्होंने दिसंबर 2018 में अपना इस्तीफा सौंप दिया?

- Ans 1. उर्जित पटेल
2. पी चिदंबरम
3. नरेंद्र मोदी
4. डॉ. मनमोहन सिंह

Question ID : 9895803071
Chosen Option : 1

Q.3
0 भारत की पहली महिला मुख्य चुनाव आयुक्त कौन थीं?

- Ans 1. निर्मला सीतारमण
2. रमा देवी
3. प्रतिभा देवी
4. मीरा कुमार

Question ID : 9895803067
Chosen Option : 2

Q.3
1 किसी विशेष निर्णय या कानून को रोकने के लिए किसी व्यक्ति, पार्टी या राष्ट्र के अधिकार को क्या कहा जाता है?

- Ans 1. वीटो
2. पाँवर ऑफ अटॉर्नी
3. वोट
4. प्राधिकार

Question ID : 9895803066
Chosen Option : 2

Q.3
2 2020 ओलंपिक खेल कहाँ आयोजित किये जाएंगे?

- Ans 1. पेरिस
2. रियो डी जनेरियो
3. बीजिंग
4. टोकियो

Question ID : 9895803058
Chosen Option : 3

Q.3
3 अगस्त 1858 में, ब्रिटिश संसद ने एक अधिनियम पारित किया जिसने कंपनी के शासन को समाप्त कर दिया, इसे कौन सा अधिनियम/एक्ट कहा गया?

- Ans
- 1. फोर्ट विलियम एक्ट
 - 2. भारत सरकार अधिनियम
 - 3. भारतीय न्यास अधिनियम
 - 4. काजिस अधिनियम

Question ID : 9895803054
Chosen Option : 1

Q.3
4 भारत और श्रीलंका को _____ द्वारा विभाजित किया गया है।

- Ans
- 1. बेरिंग जलडमरूमध्य
 - 2. जिब्राल्टर जलडमरूमध्य
 - 3. पालक जलडमरूमध्य
 - 4. होर्मुज जलडमरूमध्य

Question ID : 9895803060
Chosen Option : 2

Q.3
5 चारमीनार कहां स्थित है?

- Ans
- 1. सिकंदराबाद
 - 2. मुंबई
 - 3. हैदराबाद
 - 4. पणजी

Question ID : 9895803069
Chosen Option : 3

Q.3
6 खरीफ फसलों को _____ मौसम की शुरुआत के साथ बोई जाने वाली फसलों के रूप में वर्णित किया जा सकता है।

- Ans
- 1. शीत
 - 2. वर्षा
 - 3. ग्रीष्म
 - 4. वसंत

Question ID : 9895803062
Chosen Option : 2

Q.3
7 सोडियम हाइड्रॉक्साइड का उपयोग _____ के लिए नहीं किया जाता है।

- Ans
- 1. धातुओं की चिकनाई हटाने
 - 2. अचार परिरक्षित करने
 - 3. अखबार बनाने
 - 4. साबुन बनाने

Question ID : 9895803078
Chosen Option : 4

Q.3
8 किस पाकिस्तानी जनरल ने वर्ष 1999 में अपने देश में सैन्य शासन लागू किया था?

- Ans
- 1. क्रमर जावेद
 - 2. जिआउद्दीन बट
 - 3. राहील शरीफ
 - 4. परवेज़ मुशर्रफ

Question ID : 9895803065
Chosen Option : 4

Q.3
9 सबसे बड़ा नदी द्वीप माजुली निम्नलिखित में से किस नदी में स्थित है?

- Ans
- 1. कावेरी
 - 2. गोदावरी
 - 3. ब्रह्मपुत्र
 - 4. नर्मदा

Question ID : 9895803061
Chosen Option : 1

Q.4
0 बनारस हिंदू विश्वविद्यालय की स्थापना किसने की?

- Ans
- 1. सर सय्यद मोहम्मद
 - 2. बाल गंगाधर तिलक
 - 3. जवाहरलाल नेहरू
 - 4. पंडित मदन मोहन मालवीय

Question ID : 9895803056
Chosen Option : 4

Q.4
1 निम्न में से कौन परिसंचरण प्रणाली का हिस्सा नहीं है?

- Ans
- 1. धमनियां
 - 2. विल्ली
 - 3. शिराएं
 - 4. केशिकाएं

Question ID : 9895803076
Chosen Option : 2

Q.4
2 यथा फरवरी 2019 को बीसीसीआई के कार्यवाहक अध्यक्ष कौन हैं?

- Ans
- 1. सी के खन्ना
 - 2. शशांक मनोहर
 - 3. विनोद राय
 - 4. अनुराग ठाकुर

Question ID : 9895803057
Chosen Option : 4

Q.4 Ag एक महंगी, नर्म, सफेद और चमकदार धातु है, जिसे आमतौर पर _____ के रूप में जाना जाता है।

- Ans
- 1. चांदी
 - 2. पारा
 - 3. एल्युमीनियम
 - 4. निकल

Question ID : 9895803074
Chosen Option : 1

Q.4 कथकली की जड़ें किस राज्य में हैं?

- Ans
- 1. कर्नाटक
 - 2. आंध्रप्रदेश
 - 3. तमिलनाडु
 - 4. केरल

Question ID : 9895803068
Chosen Option : 3

Q.4 5 मार्च 1931 को संवैधानिक सुधारों की शर्तों पर बातचीत करने के लिए भारतीय राष्ट्रीय कांग्रेस की ओर से मोहनदास करमचंद गांधी ने _____ के साथ उच्च स्तरीय आधिकारिक बैठक में भाग लिया।

- Ans
- 1. लॉर्ड क्लाइव
 - 2. लॉर्ड इरविन
 - 3. लॉर्ड कर्जन
 - 4. लॉर्ड रिपन

Question ID : 9895803055
Chosen Option : 3

Q.4 निम्न में से कौन भारतीय शास्त्रीय संगीत की प्रख्यात गायिका हैं?

- Ans
- 1. शुभा मुद्गल
 - 2. रीता गांगुली
 - 3. नैना देवी
 - 4. पूर्णिमा शर्मा

Question ID : 9895803070
Chosen Option : 1

Q.4 पुस्तक 'द ऑरिजिन ऑफ़ स्पीशीज़' के लेखक कौन थे?

- Ans
- 1. जेन गुडाल

- ✓ 2. चार्ल्स रॉबर्ट डार्विन
 ✗ 3. जेम्स वॉटसन
 ✗ 4. लुई पास्चर

Question ID : 9895803077
 Chosen Option : 2

Q.4
 8 _____ मानव शरीर की सबसे छोटी हड्डी है।

- Ans
 ✗ 1. कुहनी की हड्डी
 ✓ 2. कान की हड्डी
 ✗ 3. प्रकोष्ठिका
 ✗ 4. कलाई की हड्डी

Question ID : 9895803075
 Chosen Option : 2

Q.4
 9 भारत के निम्नलिखित इस्पात संयंत्रों में से कौन सा सार्वजनिक क्षेत्र के अंतर्गत नहीं आता है?

- Ans
 ✗ 1. दुर्गापुर स्टील संयंत्र
 ✗ 2. भिलाई इस्पात संयंत्र
 ✓ 3. टिस्को
 ✗ 4. राउरकेला स्टील संयंत्र

Question ID : 9895803064
 Chosen Option : 3

Q.5
 0 _____ ने 2006 में पाकिस्तान के विरुद्ध मैच के पहले ही ओवर में हैट-ट्रिक (तीन विकेट) ली थी और इस प्रकार वे ऐसा करने वाले पहले और आज तक के एकमात्र गेंदबाज बने।

- Ans
 ✗ 1. सचिन तेंदुलकर
 ✗ 2. पार्थिव पटेल
 ✓ 3. इरफान पठान
 ✗ 4. रोहित शर्मा

Question ID : 9895803073
 Chosen Option : 3

Q.5
 1 रवि, मनीष तथा नवीन अकेले एक कार्य को क्रमशः 30 दिन, 15 दिन तथा 10 दिन में पूरा कर सकते हैं। वे मिलकर कार्य आरंभ करते हैं परंतु रवि कार्य शुरू होने के 2 दिन पश्चात कार्य को छोड़ देता है तथा मनीष और 3 दिन के पश्चात कार्य छोड़ देता है। नवीन शेष कार्य को कितने दिन में पूरा करेगा?

- Ans
 ✗ 1. 2 दिन
 ✓ 2. 1 दिन
 ✗ 3. 3 दिन
 ✗ 4. 4 दिन

Question ID : 9895804223

Chosen Option : 2

Q.5 एक वर्ग तथा वृत्त का परिमाण समान है। यदि वृत्त का क्षेत्रफल 2464 cm^2 है तो वर्ग का क्षेत्रफल क्या होगा?

- Ans
- 1. 2116 cm^2
 - 2. 1296 cm^2
 - 3. 1764 cm^2
 - 4. 1936 cm^2

Question ID : 9895804228

Chosen Option : 3

Q.5 छः संख्याओं N_1, N_2, N_3, N_4, N_5 तथा N_6 का औसत A है। प्रत्येक संख्या से 5 घटाया जाता है। नया औसत क्या है?

- Ans
- 1. A - 6
 - 2. A - 5
 - 3. A - 30
 - 4. A - 10

Question ID : 9895804211

Chosen Option : 2

Q.5 दो संख्याओं का लघुत्तम समापवर्त्य तथा महत्तम समापवर्तक क्रमशः 60 तथा 4 है। यदि उनका योग 32 है, तो इन दो संख्याओं का अंतर क्या होगा?

- Ans
- 1. 4
 - 2. 8
 - 3. 12
 - 4. 20

Question ID : 9895804208

Chosen Option : 1

Q.5 पुनीत 60 km/hr की गति से अपने दफ्तर जाता है तथा 90 km/hr की गति से अपने घर वापस आता है। पूरी यात्रा के लिए पुनीत की औसत गति क्या होगी?

- Ans
- 1. 30 m/s
 - 2. 72 m/s
 - 3. 25 m/s
 - 4. 20 m/s

Question ID : 9895804225

Chosen Option : 2

Q.5 यदि मनोज ₹ 486 में 324 टॉफियां खरीदता है, तो 50% लाभ कमाने के लिए उसे ₹ 90 में कितनी टॉफियां बेचनी चाहिए?

- Ans
- 1. 60
 - 2. 55
 - 3. 45
 - 4. 40

Question ID : 9895804217

Chosen Option : 1

Q.5 ₹ 10640 की एक राशि 5% की साधारण ब्याज दर से वर्षों में ₹ 3724 ब्याज अर्जित करती है। x का मान क्या है?

7

- Ans
- 1. 6 वर्ष
 - 2. 7 वर्ष
 - 3. 8 वर्ष
 - 4. 9 वर्ष

Question ID : 9895804221
Chosen Option : 2

Q.5 सुमित, रवि तथा पुनित एक कारोबार शुरू करने के लिए क्रमशः ₹ 45000, ₹ 81000 तथा ₹ 90000 निवेश करते हैं। 8 वर्ष के अंत में कुल लाभ ₹ 4800 होता है। कुल लाभ का 30% चैरिटी में दिया जाता है तथा शेष लाभ उनके बीच बाँटा जाता है। सुमित का हिस्सा कितना होगा?

- Ans
- 1. ₹ 700
 - 2. ₹ 1260
 - 3. ₹ 1400
 - 4. ₹ 1310

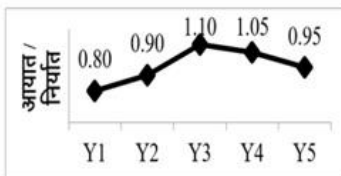
Question ID : 9895804219
Chosen Option : 3

Q.5 एक राशि चक्रवृद्धि ब्याज पर 4 वर्षों में 6 गुना हो जाती है (ब्याज को वार्षिक आधार पर चक्रवृद्धि किया गया है)। कितने वर्षों में राशि 216 गुना हो जाएगी?

- Ans
- 1. 16
 - 2. 8
 - 3. 12
 - 4. 20

Question ID : 9895804222
Chosen Option : 3

Q.6 नीचे दिया गया रेखा चित्र 5 लगातार वर्षों Y_1, Y_2, Y_3, Y_4 तथा Y_5 के लिए एक देश के लिए निर्यात की तुलना में आयात का अनुपात दर्शाता है।



निम्नलिखित में से कौन सा कथन सत्य है?

- Ans
- 1. आंकड़े पर्याप्त नहीं हैं।
 - 2. दिए गए 5 वर्षों के लिए वर्ष Y_3 के लिए आयात अधिकतम हैं।
 - 3. वर्ष Y_3 के लिए निर्यात वर्ष Y_2 के लिए निर्यात से अधिक है।
 - 4. दिए गए 5 वर्षों के लिए वर्ष Y_1 के लिए आयात न्यूनतम हैं।

Question ID : 9895804231
Chosen Option : 2

Q.6 पीयूष 8 km/hr की गति से दौड़ रहा है तथा वह प्रत्येक तीसरे किमी के अंत में आराम करने के लिए 5 मिनट रुकता है। 56 km की दूरी तय करने के लिए पीयूष को कितना समय लगेगा?

- Ans
- 1. 7 hr
 - 2. 8 hr 30 minutes
 - 3. 8 hr
 - 4. 8 hr 20 minutes

Question ID : 9895804226
Chosen Option : 2

Q.6 नीचे दिया गया आंकड़ा उन व्यक्तियों की संख्या दर्शाता है जिन्होंने एक निश्चित राशि की बचत की है।

बचत (₹में)	व्यक्तियों की संख्या
5	1
15	3
20	4
25	2
30	1
35	1
40	2

दिए गए आंकड़े का माध्यक क्या है?

- Ans
- 1. ₹ 22.5
 - 2. ₹ 20
 - 3. ₹ 17.5
 - 4. ₹ 25

Question ID : 9895804214
Chosen Option : 1

Q.6 एक लंबवृत्तीय बेलन की ऊँचाई 16 cm है। यदि इसके आधार का व्यास 3.5 cm है, तो बेलन का आयतन क्या होगा?

- Ans
- 1. 308 cm³
 - 2. 616 cm³
 - 3. 176 cm³
 - 4. 154 cm³

Question ID : 9895804229
Chosen Option : 3

Q.6 $6\frac{1}{2} + 80 \div 40 - \frac{30}{7}$ of $(5 - \frac{1}{3})$ का मान क्या है?

- Ans
- 1. $-\frac{13}{19}$

2. $\frac{-17}{2}$
3. $\frac{-23}{2}$
4. $\frac{-21}{2}$

Question ID : 9895804209

Chosen Option : 2

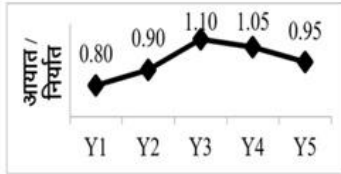
Q.6 यदि $x : y = 6 : 5$ है तथा $z : y = 9 : 25$ है, तो $x : z$ का अनुपात क्या है?

- Ans 1. 10 : 3
2. 48 : 25
3. 50 : 33
4. 54 : 125

Question ID : 9895804218

Chosen Option : 4

Q.6 नीचे दिया गया रेखा चित्र 5 लगातार वर्षों Y_1, Y_2, Y_3, Y_4 तथा Y_5 के लिए एक देश के लिए निर्यात की तुलना में आयात का अनुपात दर्शाता है।



यदि वर्ष Y_5 के लिए आयात ₹ 76000 करोड़ है, तो वर्ष Y_5 के लिए निर्यात (करोड़ में) क्या होगा?

- Ans 1. ₹ 84000
2. ₹ 80000
3. ₹ 82000
4. ₹ 78000

Question ID : 9895804230

Chosen Option : 2

Q.6 एक दुकानदार 20% की छूट देने के पश्चात् 36% लाभ कमाता है। अंकित मूल्य, क्रय मूल्य से कितने प्रतिशत अधिक है?

- Ans 1. 68%
2. 60%
3. 76%
4. 70%

Question ID : 9895804213

Chosen Option : 3

Q.6
8

$$\left(\frac{4+2+2-\frac{1}{2} \times \frac{1}{4}}{8-3 \div \frac{1}{4}+6} \right) \text{ का मान क्या है?}$$

Ans

1. $\frac{17}{16}$
2. $\frac{31}{16}$
3. $\frac{19}{16}$
4. $\frac{15}{16}$

Question ID : 9895804210

Chosen Option : 3

Q.6 35, 39, 41, 46, 27 तथा x का औसत 38 है। x का मान क्या है?

Ans

1. 38
2. 40
3. 44
4. 42

Question ID : 9895804212

Chosen Option : 2

Q.7 यदि एक वस्तु का क्रय मूल्य उस वस्तु के विक्रय मूल्य से 30% कम है, तो लाभ प्रतिशत कितना होगा?

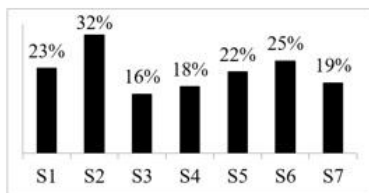
Ans

1. 30%
2. 37.5%
3. 42.86%
4. 33.33%

Question ID : 9895804216

Chosen Option : 2

Q.7 नीचे दिए गए बार चार्ट में 7 विभिन्न प्रकार की मिठाईयों S1, S2, S3, S4, S5, S6 तथा S7 में उपयोग हुई चीनी की मात्रा को मिठाई के कुल वजन के प्रतिशत के रूप में दर्शाया गया है।



मिठाई S3 का कुल वजन 450 kg है। मिठाई S3 में प्रयुक्त चीनी की मात्रा कितनी है?

Ans

1. 31 kg
2. 72 kg

3. 35 kg

4. 25 kg

Question ID : 9895804232

Chosen Option : 2

Q.7
2 यदि A, B से 25% कम है, तो $(2B - A)/A$ का मान क्या होगा?

Ans

1. $\frac{5}{3}$

2. $\frac{3}{4}$

3. $\frac{5}{4}$

4. $\frac{3}{2}$

Question ID : 9895804215

Chosen Option : 1

Q.7
3 A तथा B क्रमशः ₹ 28000 तथा ₹ 42000 के निवेश के साथ एक कारोबार शुरू करते हैं। A 8 महीने के लिए निवेश करता है तथा B एक वर्ष के लिए निवेश करता है। यदि वर्ष के अंत में कुल लाभ ₹ 21125 है, तो B का हिस्सा कितना है?

Ans

1. ₹ 12625

2. ₹ 14625

3. ₹ 13575

4. ₹ 14285

Question ID : 9895804220

Chosen Option : 3

Q.7
4 यदि एक वर्ग के विकर्ण की लंबाई 14 cm है, तो वर्ग का क्षेत्रफल क्या होगा?

Ans

1. 196 cm²

2. 156 cm²

3. 98 cm²

4. 40 cm²

Question ID : 9895804227

Chosen Option : 1

Q.7
5 A अकेले एक कुर्सी 40 दिन में बना सकता है तथा B अकेले उसी कुर्सी को 24 दिन में बना सकता है। यदि A तथा B बारी-बारी से एक-एक दिन कार्य करते हैं तथा A पहले दिन कार्य करता है, तो कुर्सी कितने दिन में बन जाएगी?

Ans

1. 30 दिन

2. 32 दिन

3. 34 दिन

4. 28 दिन

Question ID : 9895804224

Chosen Option : 1

Section : English Language

Q.1 Select the most appropriate word to fill in the blank.

They showed her the greatest _____.

- Ans
- 1. praise
 - 2. honour
 - 3. respect
 - 4. tribute

Question ID : 9895803732

Chosen Option : --

Q.2 Select the most appropriate meaning of the given idiom.

A blessing in disguise

- Ans
- 1. An apparent blessing
 - 2. A hidden misfortune
 - 3. A hidden favour
 - 4. An apparent fortune

Question ID : 9895803743

Chosen Option : --

Q.3 Select the most appropriate word to fill in the blank.

The _____ of the museum showed us some ancient coins.

- Ans
- 1. controller
 - 2. collector
 - 3. conservator
 - 4. curator

Question ID : 9895803731

Chosen Option : --

Q.4 Select the most appropriate antonym of the given word.

LENIENT

- Ans
- 1. Strict
 - 2. Helpful
 - 3. Defensive
 - 4. Generous

Question ID : 9895803740

Chosen Option : --

Q.5 Select the most appropriate synonym of the given word.

FRUITFUL

- Ans
- 1. Juicy
 - 2. Productive
 - 3. Barren
 - 4. Useless

Question ID : 9895803741

Chosen Option : --

Q.6 Select the most appropriate option to substitute the underlined segment in the given sentence. If there is no need to substitute it, select No improvement.

The questions are so simple that a child can understand it.

- Ans
- 1. is understanding them
 - 2. No improvement.
 - 3. can understand this
 - 4. can understand them

Question ID : 9895803727

Chosen Option : --

Q.7 Select the word which means the same as the group of words given.

A short speech at the end of a play

- Ans
- 1. Epilogue
 - 2. Prologue
 - 3. Chorus
 - 4. Eulogy

Question ID : 9895803745

Chosen Option : --

Q.8 Select the word which means the same as the group of words given.

A song written in the praise of God

- Ans
- 1. Elegy
 - 2. Epic
 - 3. Hymn
 - 4. Ode

Question ID : 9895803746

Chosen Option : --

Q.9 Select the most appropriate option to substitute the underlined segment in the given sentence. If there is no need to substitute it, select No improvement.

The movie Uri tells the story of a surgical strike by the Indian army towards militants in POK.

- Ans
- 1. for militants in POK
 - 2. over militants at POK
 - 3. against militants in POK
 - 4. No improvement.

Question ID : 9895803726
Chosen Option : --

Q.1 Identify the segment in the sentence which contains the grammatical error from the given options.

0

The road was blocked since it was in repair.

- Ans
- 1. since it was
 - 2. was blocked
 - 3. The road
 - 4. in repair

Question ID : 9895803725
Chosen Option : --

Q.1 Select the most appropriate option to substitute the underlined segment in the given sentence. If there is no need to substitute it, select No improvement.

1

The furniture in this room are old and need to be replaced.

- Ans
- 1. is old and needs
 - 2. No improvement.
 - 3. is old and need
 - 4. are old and needing

Question ID : 9895803728
Chosen Option : --

Q.1 Select the most appropriate synonym of the given word.

2

FOYER

- Ans
- 1. Lobby
 - 2. Kitchen
 - 3. Verandah
 - 4. Bedroom

Question ID : 9895803742
Chosen Option : --

Q.1 Select the most appropriate meaning of the given idiom.

3

Cutting corners

- Ans
- 1. Saving money
 - 2. Spending too much money
 - 3. Making money
 - 4. Lending money

Question ID : 9895803744
Chosen Option : --

Q.1
4 Fill in the blanks with the most appropriate words.

Shakespeare _____ this play.

- Ans
- 1. write
 - 2. wrote
 - 3. is writing
 - 4. has been writing

Question ID : 9895803729
Chosen Option : --

Q.1
5 Fill in the blanks with the most appropriate words.

_____ taught you such lessons as these?

- Ans
- 1. Whom
 - 2. Which
 - 3. Who
 - 4. What

Question ID : 9895803730
Chosen Option : --

Q.1
6 Identify the segment in the sentence which contains the grammatical error from the given options.

She complained about her weak eyes and lamented about the necessity from spectacles.

- Ans
- 1. lamented about
 - 2. from spectacles
 - 3. her weak eyes
 - 4. She complained

Question ID : 9895803724
Chosen Option : --

Q.1
7 Select the most appropriate antonym of the given word.

CONVEX

- Ans
- 1. Transparent

- 2. Dense
- 3. Concave
- 4. Opaque

Question ID : 9895803739
Chosen Option : --

Q.1
8 Select the correctly spelt word.

- Ans
- 1. Hierarky
 - 2. Hierarchy
 - 3. Hierarchy
 - 4. Hirarchy

Question ID : 9895803748
Chosen Option : --

Comprehension:

In the following passage some words have been deleted. Fill in the blanks with the help of the alternatives given.

There is some truth in the common saying that while dogs become attached to persons, cats are generally (1) _____ to places. A dog will follow his master anywhere, but a cat keeps to the (2) _____ it is used to; and even (3) _____ the house changes hand, the cat will remain there, so long as it is _____ treated (4) _____ by the new owners. A cat does not seem to be capable of (5) _____ often shown by a dog. It thinks most of its own comfort.

SubQuestion No : 19

Q.1
9 Fill in blank (1) with the most appropriate option.

- Ans
- 1. attached
 - 2. held
 - 3. stuck
 - 4. fond

Question ID : 9895803734
Chosen Option : --

Comprehension:

In the following passage some words have been deleted. Fill in the blanks with the help of the alternatives given.

There is some truth in the common saying that while dogs become attached to persons, cats are generally (1) _____ to places. A dog will follow his master anywhere, but a cat keeps to the (2) _____ it is used to; and even (3) _____ the house changes hand, the cat will remain there, so long as it is _____ treated (4) _____ by the new owners. A cat does not seem to be capable of (5) _____ often shown by a dog. It thinks most of its own comfort.

SubQuestion No : 20

Q.2
0 Fill in blank (2) with the most appropriate option.

- Ans
- 1. house
 - 2. master
 - 3. owner
 - 4. lady

Question ID : 9895803735

Chosen Option : --

Comprehension:

In the following passage some words have been deleted. Fill in the blanks with the help of the alternatives given.

There is some truth in the common saying that while dogs become attached to persons, cats are generally (1) _____ to places. A dog will follow his master anywhere, but a cat keeps to the (2) _____ it is used to; and even (3) _____ the house changes hand, the cat will remain there, so long as it is _____ treated (4) _____ by the new owners. A cat does not seem to be capable of (5) _____ often shown by a dog. It thinks most of its own comfort.

SubQuestion No : 21

Q.2
1 Fill in blank (3) with the most appropriate option.

- Ans
- 1. then
 - 2. wherever
 - 3. where
 - 4. when

Question ID : 9895803736

Chosen Option : --

Comprehension:

In the following passage some words have been deleted. Fill in the blanks with the help of the alternatives given.

There is some truth in the common saying that while dogs become attached to persons, cats are generally (1) _____ to places. A dog will follow his master anywhere, but a cat keeps to the (2) _____ it is used to; and even (3) _____ the house changes hand, the cat will remain there, so long as it is _____ treated (4) _____ by the new owners. A cat does not seem to be capable of (5) _____ often shown by a dog. It thinks most of its own comfort.

SubQuestion No : 22

Q.2
2 Fill in blank (4) with the most appropriate option.

- Ans
- 1. softly
 - 2. badly
 - 3. harshly
 - 4. kindly

Question ID : 9895803737

Chosen Option : --

Comprehension:

In the following passage some words have been deleted. Fill in the blanks with the help of the alternatives given.

There is some truth in the common saying that while dogs become attached to persons, cats are generally (1) _____ to places. A dog will follow his master anywhere, but a cat keeps to the (2) _____ it is used to; and even (3) _____ the house changes hand, the cat will remain there, so long as it is _____ treated (4) _____ by the new owners. A cat does not seem to be capable of (5) _____ often shown by a dog. It thinks most of its own comfort.

SubQuestion No : 23

Q.2
3 Fill in blank (5) with the most appropriate option.

- Ans
- 1. kindness
 - 2. loyalty
 - 3. keenness
 - 4. hatred

Question ID : 9895803738

Chosen Option : --

Q.2
4 Select the correctly spelt word.

- Ans
- 1. Embarrasment
 - 2. Embarrassment
 - 3. Embarrassmment
 - 4. Embarassment

Question ID : 9895803747

Chosen Option : --

Q.2
5 Identify the segment in the sentence which contains the grammatical error from the given options.

They visited the Qutub Minar, which is most attractive spot in Delhi.

- Ans
- 1. which is most
 - 2. in Delhi
 - 3. They visited
 - 4. attractive spot

Question ID : 9895803723

Chosen Option : --

Section : Hindi Language

Q.1 दिए गए वाक्य में रेखांकित खंड को प्रतिस्थापित करने के लिए सबसे उपयुक्त विकल्प का चयन करें।

दुविधा आत्मविश्वास को सबसे बड़ी शत्रु है क्योंकि दुविधा एकाग्रता को नष्ट कर देती है।

- Ans
- 1. दुविधा आत्मविश्वास के सबसे बड़ी शत्रु है
 - 2. दुविधा आत्मविश्वास का सबसे बड़ी शत्रु है
 - 3. दुविधा आत्मविश्वास की सबसे बड़ा शत्रु है

✓ 4. दुविधा आत्मविश्वास की सबसे बड़ी शत्रु है

Question ID : 9895803469
Chosen Option : 4

Q.2 दिए गए वाक्य में रेखांकित खंड को प्रतिस्थापित करने के लिए सबसे उपयुक्त विकल्प का चयन करें।

जैसे ही मैंने शेर देखा, डर के मारे मेरा तो प्राण निकल गया।

- Ans
- ✗ 1. मेरा तो प्राण निकल गयी।
 - ✗ 2. मेरे तो प्राण निकल गया।
 - ✗ 3. प्राण मेरे तो निकल गए।
 - ✓ 4. मेरे तो प्राण निकल गए।

Question ID : 9895803468
Chosen Option : 4

Q.3 रिक्त स्थान को भरने के लिए सबसे उपयुक्त शब्द का चयन करें। मीनाक्षी को अपने किए की _____ मिलेगी।

- Ans
- ✗ 1. कुल्हाड़ी
 - ✗ 2. गुड़िया
 - ✗ 3. पुरस्कार
 - ✓ 4. सजा

Question ID : 9895803472
Chosen Option : 4

Q.4 दिये गये वाक्यांश के लिए एक शब्द दीजिये।

अपनी हत्या करने वाला

- Ans
- ✗ 1. पराघाती
 - ✗ 2. मित्रघाती
 - ✓ 3. आत्मघाती
 - ✗ 4. सर्वघाती

Question ID : 9895803488
Chosen Option : 3

Q.5 दिये गये वाक्यांश के लिए एक शब्द दीजिये।

जो देखने में प्रिय लगे

- Ans
- ✗ 1. प्रियंवदा
 - ✗ 2. प्रियसखी
 - ✓ 3. प्रियदर्शी
 - ✗ 4. प्रियांशु

Question ID : 9895803489
Chosen Option : 3

Q.6 दिए गए शब्द के पर्यायवाची शब्द का चयन करें।

अमृत

- Ans
- 1. नीर
 - 2. रस
 - 3. विष
 - 4. पीयूष

Question ID : 9895803485
Chosen Option : 4

Q.7 सही वर्तनी वाले शब्द का चयन करें।

- Ans
- 1. प्रतिवर्ष
 - 2. परतीवर्ष
 - 3. प्रतिवर्श
 - 4. प्रतिबर्ष

Question ID : 9895803491
Chosen Option : 1

Q.8 दिए गए वाक्य में रेखांकित खंड को प्रतिस्थापित करने के लिए सबसे उपयुक्त विकल्प का चयन करें।

वक्ताओं ने श्रोताओं की मन मोह लिया।

- Ans
- 1. श्रोताओं को मन मोह लिया।
 - 2. श्रोताओं से मन मोह लिया।
 - 3. श्रोताओं का मन मोह लिया।
 - 4. श्रोताओं के मन मोह लिया।

Question ID : 9895803470
Chosen Option : 3

Q.9 दिए गए वाक्य में रेखांकित खंड को प्रतिस्थापित करने के लिए सबसे उपयुक्त विकल्प का चयन करें। मेरे दादाजी की चित्र बहुत पुराना है। यह चित्र मुझे बहुत प्रिय है।

- Ans
- 1. चित्र बहुत पुराना दादाजी को है।
 - 2. दादाजी का चित्र बहुत पुरानी है।
 - 3. दादाजी की चित्र बहुत पुरानी है।
 - 4. दादाजी का चित्र बहुत पुराना है।

Question ID : 9895803471
Chosen Option : 4

Q.10 दिए गए शब्द का विलोम चुनें।

आदि

- Ans
- 1. अनादि
 - 2. आरम्भ
 - 3. आबादी
 - 4. बर्बादी

Question ID : 9895803482
Chosen Option : 1

Q.1 रिक्त स्थान को भरने के लिए सबसे उपयुक्त शब्द का चयन करें। विकास _____ कमाने वाला सदस्य है।

- Ans
- 1. एकमात्र
 - 2. कहाँ
 - 3. घर
 - 4. विदेश

Question ID : 9895803473
Chosen Option : 1

Q.1 दिए गए वाक्य का वह भाग ज्ञात करें जिसमें कोई त्रुटि है। लगन के साथ अगर को परिश्रम जोड़ दिया जाए तो असंभव कार्य भी संभव हो जाती है।

- Ans
- 1. लगन के साथ
 - 2. अगर परिश्रम को जोड़ दिया जाए तो
 - 3. संभव हो जाती है।
 - 4. असंभव कार्य भी

Question ID : 9895803466
Chosen Option : 2

Q.1 सही वर्तनी वाले शब्द का चयन करें।

- Ans
- 1. गगनचूंबी
 - 2. गगनचुंभी
 - 3. गगनचुंबी
 - 4. गगनचोबी

Question ID : 9895803490
Chosen Option : 3

Q.1 रिक्त स्थान को भरने के लिए सबसे उपयुक्त शब्द का चयन करें। जैसे ही अध्यापक महोदय आए, कक्षा _____ हो गई।

- Ans
- 1. शांत
 - 2. भक्त
 - 3. पागल
 - 4. जंगली

Question ID : 9895803475
Chosen Option : 1

Q.1 रिक्त स्थान को भरने के लिए सबसे उपयुक्त शब्द का चयन करें। कोयल _____ रही है।

- Ans
- 1. भौंक
 - 2. कूक
 - 3. बहक
 - 4. महक

Question ID : 9895803474

Chosen Option : 2

Q.1 दिए गए वाक्य का वह भाग ज्ञात करें जिसमें कोई वुटि है। भारत की संस्कृति कृषक-संस्कृति है और भारतीय किसान बड़ा कठोरता जीवन जीता है।

- Ans
- 1. कृषक-संस्कृति है।
 - 2. भारत की संस्कृति
 - 3. और भारतीय किसान
 - 4. बड़ा कठोरता जीवन जीता है।

Question ID : 9895803467

Chosen Option : 4

Q.1 निम्नलिखित में से उस विकल्प का चयन करें जो ' अक्ल पर पत्थर पड़ना ' मुहावरे का अर्थ व्यक्त करता है।

- Ans
- 1. अक्ल को पत्थर से मारना
 - 2. घायल होना
 - 3. अक्ल को पत्थर पर रखना
 - 4. बुद्धि भ्रष्ट हो जाना

Question ID : 9895803486

Chosen Option : 4

Q.1 निम्नलिखित में से उस विकल्प का चयन करें जो ' आँखों में धूल झाँकना ' मुहावरे का अर्थ व्यक्त करता है।

- Ans
- 1. घायल करना
 - 2. अपमानित करना
 - 3. आँखों से धूल उड़ाना
 - 4. धोखा देना

Question ID : 9895803487

Chosen Option : 4

Q.1 दिए गए शब्द के पर्यायवाची शब्द का चयन करें।

प्रख्यात

- Ans
- 1. शोणित
 - 2. विमुख
 - 3. प्रसिद्ध

4. हस्ती

Question ID : 9895803484
Chosen Option : 3

Q.2
0 दिए गए शब्द का विलोम चुनें।

आदान

- Ans 1. प्रदान
 2. निदान
 3. ग्रहण
 4. नादान

Question ID : 9895803483
Chosen Option : 2

Comprehension:

दिए गए अनुच्छेद में कुछ शब्द हटा दिए गए हैं। दिए गए विकल्पों की सहायता से रिक्त स्थान भरें। प्रत्येक संख्या के लिए सबसे उपयुक्त विकल्प का चयन करें।

सफलता की देवी तिलक करने से पहले _____ (1) लेती है। वह उसी माथे पर _____ (2) करती है, जो श्रम की बूंदों से _____ (3) होता है। जो व्यक्ति श्रम से कतराते हैं और कर्तव्य से विमुख होते हैं वे विशेष सुविधा की _____ (4) करते हैं। उनके सपने कभी भी सफलता में परिणत नहीं हो सकते। इसलिए समय के देवता का सम्मान करने के लिए हर _____ (5) को अवसर बनाना तथा समय नियोजन करना आवश्यक है।

SubQuestion No : 21

Q.2
1 गद्यांश में संकेतित रिक्त स्थान (1) के लिए उपयुक्त शब्द होगा:

- Ans 1. तिलक
 2. भाग
 3. पैसा
 4. परीक्षा

Question ID : 9895803477
Chosen Option : 4

Comprehension:

दिए गए अनुच्छेद में कुछ शब्द हटा दिए गए हैं। दिए गए विकल्पों की सहायता से रिक्त स्थान भरें। प्रत्येक संख्या के लिए सबसे उपयुक्त विकल्प का चयन करें।

सफलता की देवी तिलक करने से पहले _____ (1) लेती है। वह उसी माथे पर _____ (2) करती है, जो श्रम की बूंदों से _____ (3) होता है। जो व्यक्ति श्रम से कतराते हैं और कर्त्तव्य से विमुख होते हैं वे विशेष सुविधा की _____ (4) करते हैं। उनके सपने कभी भी सफलता में परिणत नहीं हो सकते। इसलिए समय के देवता का सम्मान करने के लिए हर _____ (5) को अवसर बनाना तथा समय नियोजन करना आवश्यक है।

SubQuestion No : 22

Q.2
2 गद्यांश में संकेतित रिक्त स्थान (2) के लिए उपयुक्त शब्द होगा:

- Ans
- 1. क्षेत्र
 - 2. समय
 - 3. तिलक
 - 4. आँखें

Question ID : 9895803478

Chosen Option : 3

Comprehension:

दिए गए अनुच्छेद में कुछ शब्द हटा दिए गए हैं। दिए गए विकल्पों की सहायता से रिक्त स्थान भरें। प्रत्येक संख्या के लिए सबसे उपयुक्त विकल्प का चयन करें।

सफलता की देवी तिलक करने से पहले _____ (1) लेती है। वह उसी माथे पर _____ (2) करती है, जो श्रम की बूंदों से _____ (3) होता है। जो व्यक्ति श्रम से कतराते हैं और कर्त्तव्य से विमुख होते हैं वे विशेष सुविधा की _____ (4) करते हैं। उनके सपने कभी भी सफलता में परिणत नहीं हो सकते। इसलिए समय के देवता का सम्मान करने के लिए हर _____ (5) को अवसर बनाना तथा समय नियोजन करना आवश्यक है।

SubQuestion No : 23

Q.2
3 गद्यांश में संकेतित रिक्त स्थान (3) के लिए उपयुक्त शब्द होगा:

- Ans
- 1. मूल्य
 - 2. भीगा
 - 3. प्रयोग
 - 4. लगा

Question ID : 9895803479

Chosen Option : 4

Comprehension:

दिए गए अनुच्छेद में कुछ शब्द हटा दिए गए हैं। दिए गए विकल्पों की सहायता से रिक्त स्थान भरें। प्रत्येक संख्या के लिए सबसे उपयुक्त विकल्प का चयन करें।

सफलता की देवी तिलक करने से पहले _____ (1) लेती है। वह उसी माथे पर _____ (2) करती है, जो श्रम की बूंदों से _____ (3) होता है। जो व्यक्ति श्रम से कतराते हैं और कर्त्तव्य से विमुख होते हैं वे विशेष सुविधा की _____ (4) करते हैं। उनके सपने कभी भी सफलता में परिणत नहीं हो सकते। इसलिए समय के देवता का सम्मान करने के लिए हर _____ (5) को अवसर बनाना तथा समय नियोजन करना आवश्यक है।

SubQuestion No : 24

Q.2
4 गद्यांश में संकेतित रिक्त स्थान (4) के लिए उपयुक्त शब्द होगा:

- Ans
- 1. सामने
 - 2. प्रतीक्षा
 - 3. व्यय
 - 4. महत्त्व

Question ID : 9895803480
Chosen Option : 2

Comprehension:

दिए गए अनुच्छेद में कुछ शब्द हटा दिए गए हैं। दिए गए विकल्पों की सहायता से रिक्त स्थान भरें। प्रत्येक संख्या के लिए सबसे उपयुक्त विकल्प का चयन करें।

सफलता की देवी तिलक करने से पहले _____ (1) लेती है। वह उसी माथे पर _____ (2) करती है, जो श्रम की बूंदों से _____ (3) होता है। जो व्यक्ति श्रम से कतराते हैं और कर्त्तव्य से विमुख होते हैं वे विशेष सुविधा की _____ (4) करते हैं। उनके सपने कभी भी सफलता में परिणत नहीं हो सकते। इसलिए समय के देवता का सम्मान करने के लिए हर _____ (5) को अवसर बनाना तथा समय नियोजन करना आवश्यक है।

SubQuestion No : 25

Q.2
5 गद्यांश में संकेतित रिक्त स्थान (5) के लिए उपयुक्त शब्द होगा:

- Ans
- 1. भूख
 - 2. क्षण
 - 3. संसार
 - 4. आलस्य

Question ID : 9895803481
Chosen Option : 2

Constable (GD) in CAPFs, NIA, SSF and Rifleman (GD) in Assam Rifles Examination, 2018

Roll No. :	
Registration No.	
Name :	
Exam Venue :	
Exam Time :	9:00 AM - 10:30 AM
Exam Date :	12/02/2019

Section : General Section

Q.1 दिए गए विकल्पों में से असंगत शब्द का चयन करें।

- Ans 1. केन्या
 2. लंदन
 3. लिस्बन
 4. बेंगकोक

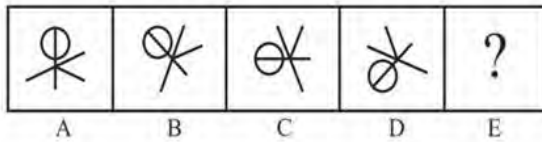
Question ID : 9895802526
Chosen Option : 1

Q.2 आठ दोस्तों A, B, C, D, E, F, H और G सामूहिक चर्चा के लिए एक वृताकार मेज़ के इर्द-गिर्द एक दूसरे के आमने सामने बैठे हैं। A, F के सामने है और E से दाईं और दूसरे स्थान पर है। G, C और A के बीच में है। H, E की बाईं ओर है। C की बाईं ओर दूसरे स्थान पर कौन बैठा है?

- Ans 1. A
 2. D
 3. F
 4. C

Question ID : 9895802533
Chosen Option : 1

Q.3 विकल्पों में से उस आकृति का चयन करें जो दी गई श्रृंखला में अगले स्थान पर आएगी।




Ans

- 1.
- 2.

3.



4.



Question ID : 9895802543
Chosen Option : 1

Q.4 उस दशमलव संख्या की पहचान करें जो दी गई श्रृंखला में अगली आएगी।

10, 9.9, 9.89, 9.889, 9.8889, _____

Ans

1. 9.88888
 2. 9.88889
 3. 9.98889
 4. 9.88999

Question ID : 9895802538
Chosen Option : 2

Q.5 एक निश्चित कूट भाषा में, LIGHT को GSTRO लिखा जाता है। उस कूट भाषा में GYPSY को कैसे लिखा जाएगा?

Ans

1. BHKBT
 2. BHOBT
 3. BHHBT
 4. BHJBT

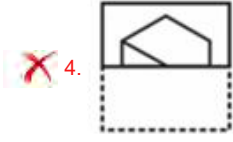
Question ID : 9895802530
Chosen Option : 1

Q.6 एक वर्गाकार पारदर्शी शीट एक पैटर्न के साथ दी गई है। जब शीट को बिंदीदार रेखा पर मोड़ा जाता है तो पैटर्न कैसा दिखाई देगा?



Ans

1.
 2.
 3.



4.

Question ID : 9895802547

Chosen Option : 3

Q.7 चार संख्याएँ दी गई हैं जिनमें से तीन संख्याएँ किसी न किसी रूप में समान हैं, जबकि एक संख्या भिन्न है। असंगत संख्या चुनिए।

- Ans
1. 419
2. 215
3. 561
4. 317

Question ID : 9895802540

Chosen Option : 3

Q.8 उस विकल्प का चयन करें जो तीसरे पद से उसी प्रकार से संबंधित है जिस प्रकार दूसरा पद प्रथम पद से संबंधित है।

BFI:AGK: :DGJ: ?

- Ans
1. CHL
2. HCI
3. HCL
4. CHC

Question ID : 9895802529

Chosen Option : 1

Q.9 नीचे दिए गए कथनों के बाद दो निष्कर्ष I और II दिए गए हैं। यह मानते हुए कि कथनों में दी गई जानकारी सत्य है, भले ही वह सर्वज्ञात तथ्यों से भिन्न प्रतीत होती हो और यह निर्णय करें कि कौन सा / से निष्कर्ष तार्किक और निश्चित रूप से कथन में दी गई जानकारी का अनुसरण करता है / करते हैं।

कथन:

1. सभी छात्र कौवे हैं।
2. सभी कौवे बिल्लियाँ हैं।

निष्कर्ष:

- I. सभी बिल्लियाँ कौवे हैं।
- II. कुछ कौवे छात्र हैं।

- Ans
1. दोनों निष्कर्ष अनुसरण करते हैं।
2. या तो निष्कर्ष I या निष्कर्ष II अनुसरण करता है।
3. केवल निष्कर्ष II अनुसरण करता है।
4. केवल निष्कर्ष I अनुसरण करता है।

Question ID : 9895802535

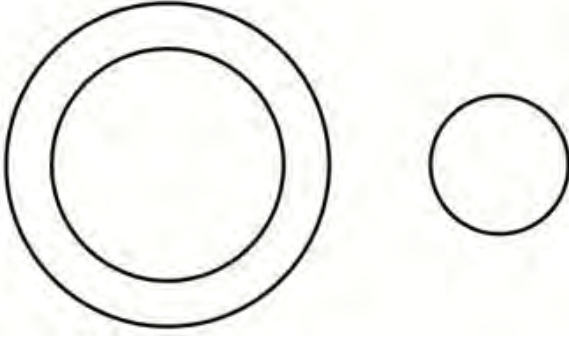
Chosen Option : 3

Q.1 निम्नलिखित में से कौन सा वेन रेखाचित्र दिए गए वर्ग के बीच के संबंध को सही दर्शाता है?

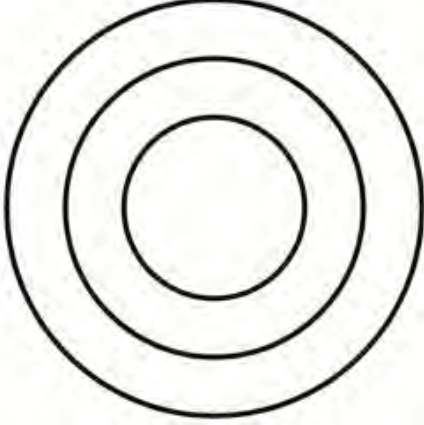
गिलहरी, तोतें, स्तनधारी

Ans

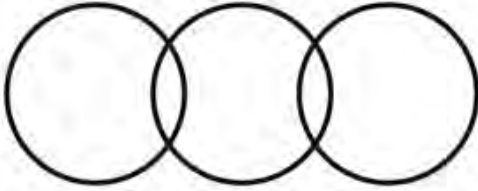
✓ 1.



✗ 2.



✗ 3.



✗ 4.



Question ID : 9895802548
Chosen Option : 1

Q.1 नीचे दिए गए कथनों के बाद दो निष्कर्ष I और II दिए गए हैं। यह मानते हुए कि कथनों में दी गई जानकारी सत्य है, भले ही वह सर्वज्ञात तथ्यों से भिन्न प्रतीत होती हो और यह निर्णय करें कि कौन सा / से निष्कर्ष तार्किक और निश्चित रूप से कथन में दी गई जानकारी का अनुसरण करता है / करते हैं।

कथन:

- 1) कुछ जूल (joules) उर्जाएं हैं।
- 2) कुछ उर्जाएं विज्याएं हैं।

निष्कर्ष:

- I. कुछ विज्याएं उर्जाएं हैं।
- II. कुछ उर्जाएं जूल (joules) हैं।

Ans

✗ 1. केवल निष्कर्ष II अनुसरण करता है।

✓ 2. दोनों निष्कर्ष अनुसरण करते हैं।

✗ 3. न तो निष्कर्ष I और न ही निष्कर्ष II अनुसरण करता है।

4. केवल निष्कर्ष । अनुसरण करता है।

Question ID : 9895802536

Chosen Option : 1

Q.1 एक मात्र रनवे है जिसका सात उड़ानों द्वारा एक के बाद एक उपयोग किया जाएगा। P और Q न तो पहले और न ही आखरी रनवे का उपयोग करेगी। S, R के बाद दूसरे स्थान पर उपयोग करेगी। M, O से पहले दूसरे स्थान पर उपयोग करेगी । N, O के बाद और R से पहले उपयोग करेगी। Q, S से ठीक पहले रनवे का उपयोग करेगी । कौन सी उड़ान O के बाद तीसरे स्थान पर रनवे का उपयोग करेगी?

- Ans
1. Q
2. P
3. R
4. N

Question ID : 9895802534

Chosen Option : 1

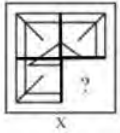
Q.1 उस विकल्प का चयन करें जो सही रूप में रिक्त स्थान को भरे और श्रृंखला को पूरा करें।
3
2, 37, 82, 137, ?

- Ans
1. 182
2. 202
3. 147
4. 247

Question ID : 9895802537

Chosen Option : 2

Q.1 इन चार विकल्पों में से उस आकृति का चयन करें, जिसे आकृति X के रिक्त स्थान (?) में रखने से पैटर्न पूर्ण कर दें।
4
(घूर्णन की अनुमति नहीं है)।



- Ans
- 1.
- 2.
- 3.
- 4.

Question ID : 9895802544

Chosen Option : 1

Q.1 उस विकल्प का चयन करें जो सही रूप में रिक्त स्थान को भरे और श्रृंखला को पूरा करें।
5
RTN, SRO, TPP, UNQ, ?

Ans

1. VIP
 2. VJR
 3. VLP
 4. VLR

Question ID : 9895802524
 Chosen Option : 4

Q.1 निम्न चार अक्षर समूहों में से कौन सा एक इस समूह का हिस्सा नहीं है?

- Ans 1. JKN
 2. GMO
 3. TIF
 4. DPN

Question ID : 9895802525
 Chosen Option : 4

Q.1 उस विकल्प का चयन करें जो तीसरी संख्या से उसी प्रकार से संबंधित है जिस प्रकार दूसरी संख्या प्रथम संख्या से संबंधित है।

22 : 441 :: 13 : ?

- Ans 1. 169
 2. 144
 3. 221
 4. 275

Question ID : 9895802539
 Chosen Option : 2

Q.1 विकल्पों में से उस आकृति का चयन करें जिसमें 'X' से चिह्नित आकृति समाहित है।



X

Ans

- 1.
- 2.
- 3.

4.



Question ID : 9895802545
Chosen Option : 1

Q.1 सात दोस्तों O, P, Q, R, S, T और U स्टेडियम में बैठे क्रिकेट मैच देख रहे हैं। P एक अंतिम छोर पर बैठा है। T, Q और U के बीच में बैठा है और R, S की ठीक दाईं ओर और Q की ठीक बाईं ओर बैठा है। U, P की बाईं ओर से दूसरे स्थान पर बैठा है। T की बाईं ओर दूसरे स्थान पर कौन बैठा है?

- Ans
- 1. U
 - 2. P
 - 3. R
 - 4. Q

Question ID : 9895802532
Chosen Option : 3

Q.2 निम्न समीकरण को सही करने के लिए दो आपस में बदलने की आवश्यकता वाले दो चिहनों का पता लगाएं।
0 $25 + 26 \times 2 - 7 \div 3 = 17$

- Ans
- 1. \times और \div
 - 2. $-$ और \div
 - 3. $+$ और $-$
 - 4. $-$ और \times

Question ID : 9895802542
Chosen Option : 1

Q.2 उस विकल्प का चयन करें जो तीसरे पद से उसी प्रकार से संबंधित है जिस प्रकार दूसरा पद प्रथम पद से संबंधित है।
1 सुस्ती : सतर्कता :: शांति : ?

- Ans
- 1. कोलाहल
 - 2. चुनना
 - 3. प्रसन्नता
 - 4. बातचीत

Question ID : 9895802528
Chosen Option : 1

Q.2 उस विकल्प का चयन करें जो तीसरे पद से उसी प्रकार से संबंधित है जिस प्रकार दूसरा पद प्रथम पद से संबंधित है।
2 उग्र : हिंसक :: भ्रांति : ?

- Ans
- 1. मिथ्या धारणा
 - 2. युद्ध
 - 3. पतन
 - 4. अहम्

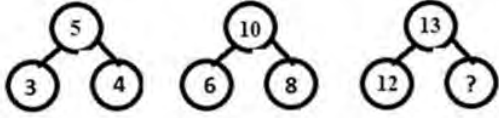
Question ID : 9895802527
Chosen Option : 1

Q.2 एक निश्चित कूट भाषा में, VIRUS को 46 लिखा जाता है। उस कूट भाषा में CRUST को कैसे लिखा जाएगा?

- Ans
- 1. 59
 - 2. 54
 - 3. 55
 - 4. 57

Question ID : 9895802531
Chosen Option : 4

Q.2 उस विकल्प का चयन करें जो दी गई पैटर्न में प्रश्न चिह्न (?) के स्थान पर सही ढंगसे आएगा।



- Ans
- 1. 7
 - 2. 5
 - 3. 11
 - 4. 13

Question ID : 9895802541
Chosen Option : 2

Q.2 उस विकल्प का चयन करें जो, अगर दर्पण को दाईं ओर रखा जाए तो, दिए गए शब्द की दर्पण छवि से सबसे निकट मेल खाता हो।

PROWESS

- Ans
- 1.
 - 2.
 - 3.
 - 4.

Question ID : 9895802546
Chosen Option : 1

Q.2 जब किडनी सही तरीके से काम करना बंद कर देती है, तो अपशिष्ट उत्पादों और खून से अतिरिक्त द्रव को निकालने की प्रक्रिया को क्या कहा जाता है?

- Ans
- 1. निस्पंदन
 - 2. शुद्धिकरण
 - 3. डायलिसिस
 - 4. परिसंचरण

Question ID : 9895803102
Chosen Option : 3

Q.2
7 राजीव गांधी खेल रत्न पुरस्कार पाने वाले सबसे कम उम्र के प्राप्तकर्ता कौन हैं?

- Ans
- 1. विश्वनाथन आनंद
 - 2. विराट कोहली
 - 3. गीत सेठी
 - 4. अभिनव बिंद्रा

Question ID : 9895803083
Chosen Option : 2

Q.2
8 अर्थशास्त्री _____ ने 1998 में नोबेल पुरस्कार प्राप्त किया।

- Ans
- 1. अमर्त्य सेन
 - 2. रघुराम राजन
 - 3. अभिजीत विनायक बनर्जी
 - 4. डॉ. मनमोहन सिंह

Question ID : 9895803089
Chosen Option : 1

Q.2
9 लक्षद्वीप द्वीपसमूह _____ में स्थित हैं।

- Ans
- 1. प्रशांत महासागर
 - 2. बंगाल की खाड़ी
 - 3. हिन्द महासागर
 - 4. अरब सागर

Question ID : 9895803084
Chosen Option : 4

Q.3
0 लड्डुमार होली कहाँ में मनाई जाती है?

- Ans
- 1. बनारस और नंदगाँव
 - 2. वाराणसी
 - 3. द्वारका
 - 4. अयोध्या

Question ID : 9895803095
Chosen Option : 1

Q.3
1 विषाणुओं के अध्ययन को क्या कहा जाता है?

- Ans
- 1. वाइरोलोजी
 - 2. पेइडोलॉजी
 - 3. बायोलोजी

4. पैथोलॉजी

Question ID : 9895803099
Chosen Option : 1

Q.3
2 'सत्य के प्रयोग' (माय एक्सपेरिमेंट्स विथ ध ड्रुथ) _____ की आत्मकथा है।

- Ans
1. एपीजे अब्दुल कलाम
2. महात्मा गांधी
3. जवाहरलाल नेहरू
4. नरेन्द्र मोदी

Question ID : 9895803097
Chosen Option : 2

Q.3
3 जम्मू और कश्मीर को कौन से अनुच्छेद (धारा) के तहत विशेष दर्जा दिया गया है?

- Ans
1. 100
2. 370
3. 12
4. 111

Question ID : 9895803091
Chosen Option : 2

Q.3
4 भारतीय संविधान का नागरिकत्व पर धारा किस देश के संविधान से प्रेरित है?

- Ans
1. फ्रांस
2. यूके
3. युएसए
4. ऑस्ट्रेलिया

Question ID : 9895803090
Chosen Option : 2

Q.3
5 निम्न में से कौन पानी के साथ प्रतिक्रिया करता है?

- Ans
1. चांदी
2. कैल्सियम
3. सीसा
4. तांबा

Question ID : 9895803103
Chosen Option : 2

Q.3
6 भारत सरकार में युवा मामलों और खेल के लिए वर्तमान कैबिनेट मंत्री कौन है?

- Ans
1. राज्यवर्धन सिंह राठौड़
2. विजय गोयल

3. नितिन गडकरी
4. सुषमा स्वराज

Question ID : 9895803082
Chosen Option : 1

Q.3
7 भारत के न्यायतंत्र में अदालतों का पदानुक्रम शामिल है जिसमें _____ सर्वोच्च है।

- Ans 1. ग्राम पंचायत
2. उच्चतम न्यायालय
3. जिल्ला न्यायालय
4. उच्च न्यायालय

Question ID : 9895803092
Chosen Option : 2

Q.3
8 300 कैच लपकने वाले भारत के पहले विकेट कीपर कौन हैं?

- Ans 1. सुरेश रैना
2. एमएस धोनी
3. वीरेंद्र सहवाग
4. सौरव गांगुली

Question ID : 9895803096
Chosen Option : 2

Q.3
9 यथा जून 2018, भारतीय फुटबॉल खिलाड़ी _____ दुनिया के दूसरे सबसे ज्यादा गोल करने वाले खिलाड़ी बनें।

- Ans 1. बाईचुंग भूटिया
2. गुरप्रीत सिंह
3. आईएम विजयन
4. सुनील छेत्री

Question ID : 9895803098
Chosen Option : 2

Q.4
0 हवा महल कौन से शहर में स्थित है?

- Ans 1. दिल्ली
2. जयपुर
3. आग्रा
4. गुजरात

Question ID : 9895803094
Chosen Option : 2

Q.4
1 _____ सरकारी रसीदें हैं जो विमोचन योग्य (रिडीमेबल) नहीं है।

- Ans
- 1. राजस्व रसीदें
 - 2. कर रसीदें
 - 3. प्रत्यक्ष रसीदें
 - 4. अप्रत्यक्ष रसीदें

Question ID : 9895803088
Chosen Option : 4

Q.4
2 निम्न में से कौन सी धातु सबसे अधिक तन्य है?

- Ans
- 1. एल्युमीनियम
 - 2. लोहा
 - 3. सोना
 - 4. तांबा

Question ID : 9895803100
Chosen Option : 3

Q.4
3 गांधी - इरविन समझौता भारत के निम्नलिखित में से किस आंदोलन से संबंधित था?

- Ans
- 1. सविनय अवज्ञा
 - 2. भारत छोड़ो
 - 3. रोलेट
 - 4. असहयोग

Question ID : 9895803079
Chosen Option : 1

Q.4
4 _____ पूंजी उत्पादन के दौरान विविध कच्चे माल और हाथ पर पैसों को संदर्भित करती है।

- Ans
- 1. मानवीय
 - 2. भौतिक
 - 3. क्रियाशील
 - 4. स्थायी

Question ID : 9895803087
Chosen Option : 3

Q.4
5 निम्नलिखित में से कौन फ्रांसीसी क्रांति के आदर्शों से प्रेरित था?

- Ans
- 1. टीपू सुल्तान
 - 2. अरविन्द घोष
 - 3. बदरुद्दीन तैयबजी
 - 4. एनी बेसेंट

Question ID : 9895803081
Chosen Option : 1

Q.4
6 पत्ती की निचली सतह पर स्थित छोटे छिद्रों को क्या कहते हैं?

- Ans
- 1. रोम
 - 2. सिलिया
 - 3. रंध
 - 4. प्रस्फुटन

Question ID : 9895803101
Chosen Option : 3

Q.4
7 _____ प्रायः प्रकृति में रेतीली और गुण में लवणीय होती है।

- Ans
- 1. शुष्क मिट्टी
 - 2. जलोढ़ मिट्टी
 - 3. माखराला (लेटराइट) मिट्टी
 - 4. काली मिट्टी

Question ID : 9895803086
Chosen Option : 3

Q.4
8 भारतीय उपखंड में जन्म लेने वाला कौन सा भक्ति संगीत सूफी भक्ति संगीत का एक रूप है?

- Ans
- 1. कटवाली
 - 2. बसंत गीत
 - 3. तीज गीत
 - 4. कजरी

Question ID : 9895803093
Chosen Option : 4

Q.4
9 निम्न में से कौन-सी सिंधु नदी की उपनदी नहीं है?

- Ans
- 1. गंगा
 - 2. रावी
 - 3. चिनाब
 - 4. झेलम

Question ID : 9895803085
Chosen Option : 1

Q.5
0 _____ जम्मू और कश्मीर के बंजारे हैं।

- Ans
- 1. गुज्जर बकरवाल
 - 2. शेर्पा
 - 3. भोटिया
 - 4. गद्दी चरवाहे

Question ID : 9895803080
Chosen Option : 1

Q.5
1 एक वस्तु को 20% की छूट देने के पश्चात् ₹ 5360 में बेचा गया है। वस्तु का अंकित मूल्य क्या है?

- Ans 1. ₹ 6700
 2. ₹ 6800
 3. ₹ 6620
 4. ₹ 7000

Question ID : 9895804264
Chosen Option : 1

Q.5
2 B, A से 20% अधिक है तथा C, B से 25% अधिक है। यदि C = 330 है, तो A का मान क्या होगा?

- Ans 1. 214
 2. 220
 3. 250
 4. 198

Question ID : 9895804266
Chosen Option : 2

Q.5
3 नीचे दी गई तालिका में एक श्रृंखला के 5 विभिन्न मैचों में 4 विभिन्न बल्लेबाजों

B1, B2, B3 तथा B4 द्वारा बनाए गए रनों को दर्शाती है।

	मैच				
	M1	M2	M3	M4	M5
B1	120	95	83	86	20
B2	12	8	0	196	52
B3	23	36	45	19	27
B4	56	65	85	45	42

इन 5 मैचों में B1 तथा B4 द्वारा बनाए गए रनों की कुल संख्या में क्या अंतर है?

- Ans 1. 87
 2. 111
 3. 98
 4. 124

Question ID : 9895804283
Chosen Option : 2

Q.5
4 एक विद्यालय के 50 शिक्षकों की औसत आयु 66 वर्ष है तथा दूसरे विद्यालय के 60 शिक्षकों की औसत आयु 55 वर्ष है। दोनों विद्यालयों के शिक्षकों को मिलाकर औसत आयु क्या होगी?

- Ans 1. 57.5 वर्ष

2. 65 वर्ष
3. 62.5 वर्ष
4. 60 वर्ष

Question ID : 9895804262
Chosen Option : 4

Q.5 ₹ 3200 रु की एक राशि पर 20% की वार्षिक दर से 2 वर्षों के चक्रवृद्धि ब्याज (ब्याज का संयोजन वार्षिक किया गया है) तथा साधारण ब्याज के मध्य अंतर क्या होगा?

- Ans 1. ₹ 128
2. ₹ 96
3. ₹ 148
4. ₹ 132

Question ID : 9895804273
Chosen Option : 1

Q.5 एक शंकु की ऊँचाई 24 से.मी. है तथा उसके आधार की त्रिज्या 10 से.मी. है। यदि इसे रंगने की दर ₹ 28/से.मी.² है, तो शंकु को बाहर से रंगने में कुल खर्चा कितना होगा?

- Ans 1. ₹ 22880
2. ₹ 18880
3. ₹ 17660
4. ₹ 20820

Question ID : 9895804279
Chosen Option : 1

Q.5 नीचे दी गई तालिका में एक श्रृंखला के 5 विभिन्न मैचों में 4 विभिन्न बल्लेबाजों

B1, B2, B3 तथा B4 द्वारा बनाए गए रनों को दर्शाती है।

	मैच				
	M1	M2	M3	M4	M5
B1	120	95	83	86	20
B2	12	8	0	196	52
B3	23	36	45	19	27
B4	56	65	85	45	42

बल्लेबाज B3 द्वारा बनाए गए रन की प्रति मैच औसत संख्या क्या हैं?

- Ans 1. 35
2. 30
3. 28
4. 36

Question ID : 9895804281
Chosen Option : 2

Q.5 8 के पहले चार धनात्मक गुणकों का औसत क्या होगा?

- Ans 1. 24

2. 20

3. 32

4. 16

Question ID : 9895804263
Chosen Option : 2

Q.5 किसी आयताकार बगीचे की लंबाई तथा चौड़ाई 12 से.मी. तथा 9 से.मी. है। आयताकार बगीचे का क्षेत्रफल क्या होगा?

Ans 1. 84 से.मी.²

2. 112 से.मी.²

3. 96 से.मी.²

4. 108 से.मी.²

Question ID : 9895804278
Chosen Option : 4

Q.6 $2^3 \times 3^5 \times 5^5$ तथा $3^1 \times 5^2 \times 7^1$ का महत्तम समापवर्तक क्या होगा?

Ans 1. $2^3 \times 3^5 \times 5^7 \times 7^1$

2. $2^1 \times 3^1 \times 5^2$

3. $2^1 \times 3^1 \times 5^2 \times 7^1$

4. $3^1 \times 5^2$

Question ID : 9895804259
Chosen Option : 4

Q.6 राहुल ने बाजार से 80 वस्तुएं खरीदीं। कुल वस्तुओं की 25% वस्तुएं खराब थीं तथा शेष वस्तुओं को 50% लाभ पर बेचा गया। कुल लाभ प्रतिशत क्या होगा?

Ans 1. 12.5%

2. 11.11%

3. 9.09%

4. 10%

Question ID : 9895804267
Chosen Option : 1

Q.6 एक किताब के विक्रय मूल्य तथा क्रय मूल्य 3 : 4 के अनुपात में है। लाभ/हानि प्रतिशत क्या होगा?

Ans 1. 66.66% हानि

2. 25% हानि

3. 20% लाभ

4. 33.33% लाभ

Question ID : 9895804268
Chosen Option : 2

Q.6 एक राशि साधारण ब्याज की वार्षिक दर से 15 वर्षों में स्वयं का 14 गुना हो जाती है। कितने वर्षों में राशि स्वयं का 92 गुना हो जाएगी?

Ans 1. 210 वर्ष

2. 195 वर्ष
3. 91 वर्ष
4. 105 वर्ष

Question ID : 9895804272
Chosen Option : 4

Q.6 नीचे दी गई तालिका में एक श्रृंखला के 5 विभिन्न मैचों में 4 विभिन्न बल्लेबाजों B1, B2, B3 तथा B4 द्वारा बनाए गए रनों को दर्शाती है।

	मैच				
	M1	M2	M3	M4	M5
B1	120	95	83	86	20
B2	12	8	0	196	52
B3	23	36	45	19	27
B4	56	65	85	45	42

M5 में इन बल्लेबाजों द्वारा बनाए गए प्रति बल्लेबाज औसत रन क्या हैं?

- Ans 1. 39.25
2. 35.25
3. 32.75
4. 38.50

Question ID : 9895804282
Chosen Option : 2

Q.6 $\left[6\frac{1}{5} \times \frac{5}{6} \text{ का } \left(\frac{2}{5} - \frac{16}{62} + \frac{11}{62}\right)\right]$ का मान क्या है?

- Ans 1. $\frac{33}{20}$
2. $\frac{47}{62}$
3. $\frac{47}{108}$
4. $\frac{43}{108}$

Question ID : 9895804260
Chosen Option : 1

Q.6 $\left[4 + 200 \div 50 + \frac{3}{2} \text{ का } \left(\frac{1}{5} - \frac{1}{4}\right)\right]$ का मान क्या है?

- Ans 1. $\frac{329}{40}$
2. $\frac{317}{40}$
3. $\frac{337}{40}$
4. $\frac{323}{40}$

Question ID : 9895804261
Chosen Option : 4

Q.6 दो वस्तुओं का मूल्य क्रमशः 4 : 3 के अनुपात में है। पहली वस्तु का मूल्य 50% से बढ़ाया जाता है तथा दूसरी वस्तु का मूल्य 10% से घटाया जाता है। यदि दूसरी वस्तु का नया मूल्य ₹ 54 है, तो पहली वस्तु का वास्तविक मूल्य क्या था?

- Ans
1. ₹ 90
2. ₹ 80
3. ₹ 120
4. ₹ 100

Question ID : 9895804271
Chosen Option : 2

Q.6 C अकेला एक कार्य को 20 दिन में पूरा कर सकता है तथा D अकेला समान कार्य को 30 दिन में पूरा कर सकता है।
8 C तथा D दोनों मिलकर समान कार्य को कितने दिन में पूरा कर सकते हैं?

- Ans
1. 15 दिन
2. 12 दिन
3. 6 दिन
4. 8 दिन

Question ID : 9895804274
Chosen Option : 2

Q.6 नीचे दिया गया डेटा उन व्यक्तियों की संख्या को दर्शाता है जिन्होंने एक निश्चित राशि की बचत की है।
9

बचत (₹ में)	व्यक्तियों की संख्या
5	1
15	3
20	4
25	2
30	1
35	1
40	2

दिए गए डेटा का बहुलक क्या है?

- Ans
1. ₹ 15
2. ₹ 25
3. ₹ 20
4. ₹ 30

Question ID : 9895804265
Chosen Option : 3

Q.7 यदि एक व्यक्ति 30 मी./से. की गति से एक कार चला रहा है, तो व्यक्ति 1620 कि.मी. की दूरी को कितने समय में तय करेगा?
0

- Ans
1. 13 घंटे
2. 54 घंटे

3. 12 घंटे

4. 15 घंटे

Question ID : 9895804276
Chosen Option : 4

Q.7 अनिल 35 कि.मी./घंटा की गति से अपने दफ्तर जाता है तथा 30 कि.मी./घंटा की गति से अपने घर वापस आता है।
1 यदि वह कुल 39 घंटे लेता है, तो उसके दफ्तर तथा घर के मध्य दूरी क्या है?

Ans 1. 630 कि.मी.

2. 525 कि.मी.

3. 420 कि.मी.

4. 210 कि.मी.

Question ID : 9895804277
Chosen Option : 1

Q.7
2 यदि $a : b = 4 : 5$ है, तो $(a/b) : (b/a)$ का अनुपात क्या होगा?

Ans 1. 5 : 4

2. 16 : 25

3. 4 : 5

4. 1 : 1

Question ID : 9895804270
Chosen Option : 2

Q.7
3 यदि $A : B : C = 4 : 5 : 6$ है, तो $(1/A) : (1/B) : (1/C)$ का अनुपात क्या होगा?

Ans 1. 10 : 12 : 15

2. 15 : 10 : 12

3. 15 : 12 : 10

4. 12 : 10 : 15

Question ID : 9895804269
Chosen Option : 3

Q.7
4 एक आयताकार मेज का परिमाण 48 से.मी. है। यदि आयताकार मेज का क्षेत्रफल 128 से.मी.² है, तो मेज की लंबाई क्या होगी?

Ans 1. 10 से.मी.

2. 12 से.मी.

3. 16 से.मी.

4. 18 से.मी.

Question ID : 9895804280
Chosen Option : 3

Q.7 विवेक, देव तथा ललित अकेले एक कार्य को क्रमशः 10 दिन, 15 दिन तथा 20 दिन में पूरा कर सकते हैं। विवेक तथा
5 देव मिलकर समान कार्य का आधा कितने दिन में पूरा कर सकते हैं?

Ans 1. 3 दिन

2. 9 दिन

3. 6 दिन

4. 5 दिन

Question ID : 9895804275

Chosen Option : 1

Section : English Language

Q.1 Select the most appropriate meaning of the given idiom.

Get out of hand

Ans 1. Controllable

2. Appreciable

3. Manageable

4. Uncontrollable

Question ID : 9895804125

Chosen Option : --

Q.2 Select the most appropriate meaning of the given idiom.

To hold your horses

Ans 1. To be excited

2. To control horses

3. To be too quick

4. To have patience

Question ID : 9895804126

Chosen Option : --

Q.3 Select the most appropriate synonym of the given word.

DUBIOUS

Ans 1. Doubtful

2. Delicate

3. Duplicate

4. Dutiful

Question ID : 9895804123

Chosen Option : --

Q.4 Select the most appropriate option to substitute the underlined segment in the given sentence. If there is no need to substitute it, select No improvement.

Rishi cleared the IIT entrance examination but do not pursue engineering due to personal reasons.

Ans 1. No improvement

2. did not pursue

3. has not pursue

4. was not pursuing

Question ID : 9895804109

Chosen Option : --

Q.5 Identify the segment in the sentence which contains the grammatical error from the given options.

The work is too much for any man to do single-hand.

- Ans
- 1. any man to
 - 2. single-hand
 - 3. too much
 - 4. The work is

Question ID : 9895804107

Chosen Option : --

Q.6 Select the most appropriate option to substitute the underlined segment in the given sentence. If there is no need to substitute it, select No improvement.

Don't talk as soon as she is dancing.

- Ans
- 1. how
 - 2. No improvement
 - 3. but
 - 4. as long as

Question ID : 9895804108

Chosen Option : --

Q.7 Select the word which means the same as the group of words given.

Handwriting that cannot be read

- Ans
- 1. Legible
 - 2. Negligible
 - 3. Corrigible
 - 4. Illegible

Question ID : 9895804128

Chosen Option : --

Q.8 Fill in the blanks with the most appropriate words.

They did it as you _____ them to.

- Ans
- 1. had told
 - 2. are telling
 - 3. tell
 - 4. will tell

Question ID : 9895804113

Chosen Option : --

Q.9

Identify the segment in the sentence which contains the grammatical error from the given options.

She gave a loud shout, which heard across the village.

- Ans
- 1. across the village
 - 2. loud shout
 - 3. which heard
 - 4. She gave

Question ID : 9895804105

Chosen Option : --

Q.1
0 Select the correctly spelt word.

- Ans
- 1. Sucessfully
 - 2. Successfully
 - 3. Successfuly
 - 4. Succesfully

Question ID : 9895804129

Chosen Option : --

Q.1
1 Select the most appropriate option to substitute the underlined segment in the given sentence. If there is no need to substitute it, select No improvement.

India expressed concern at the arrest of 130 Indian students enrolling at a fake university in Detroit.

- Ans
- 1. enrolled at a fake university
 - 2. enroll by a fake university
 - 3. enrolling in a fake university
 - 4. No improvement

Question ID : 9895804110

Chosen Option : --

Q.1
2 Select the correctly spelt word.

- Ans
- 1. Playright
 - 2. Playwrite
 - 3. Playwright
 - 4. Playwriter

Question ID : 9895804130

Chosen Option : --

Q.1
3 Select the most appropriate synonym of the given word.

ENORMOUS

- Ans
- 1. Puny
 - 2. Huge
 - 3. Keen
 - 4. Grand

Question ID : 9895804124
Chosen Option : --

Q.1
4 Select the most appropriate word to fill in the blank.

The forest officers _____ a leopard cub trapped in a pit.

- Ans
- 1. searched
 - 2. founded
 - 3. discovered
 - 4. invented

Question ID : 9895804111
Chosen Option : --

Q.1
5 Select the most appropriate word to fill in the blank.

I shall be glad if you _____ my proposal.

- Ans
- 1. expect
 - 2. accept
 - 3. intercept
 - 4. except

Question ID : 9895804112
Chosen Option : --

Q.1
6 Select the most appropriate antonym of the given word.

ORDINARY

- Ans
- 1. Unique
 - 2. Common
 - 3. Regular
 - 4. Normal

Question ID : 9895804121
Chosen Option : --

Comprehension:

In the following passage some words have been deleted. Fill in the blanks with the help of the alternatives given.

Suppose you have to make a payment of Rs. 100, you can do so in coins; but it would be _____ (1) to pay in nickel or copper coins, because it takes much time to _____ (2) them. The government _____ (3) permits you to make the payment in _____ (4) What are these notes really? They are a kind of money although they are made of _____ (5) instead of metal.

SubQuestion No : 17

Q.1
7 Fill in blank (1) with the most appropriate option.

- Ans
- 1. easy

2. feasible
 3. practical
 4. cumbersome

Question ID : 9895804116
Chosen Option : --

Comprehension:

In the following passage some words have been deleted. Fill in the blanks with the help of the alternatives given.

Suppose you have to make a payment of Rs. 100, you can do so in coins; but it would be _____ (1) to pay in nickel or copper coins, because it takes much time to _____ (2) them. The government _____ (3) permits you to make the payment in _____ (4) What are these notes really? They are a kind of money although they are made of _____ (5) instead of metal.

SubQuestion No : 18

Q.1
8 Fill in blank (2) with the most appropriate option.

- Ans 1. count
 2. hold
 3. pay
 4. carry

Question ID : 9895804117
Chosen Option : --

Comprehension:

In the following passage some words have been deleted. Fill in the blanks with the help of the alternatives given.

Suppose you have to make a payment of Rs. 100, you can do so in coins; but it would be _____ (1) to pay in nickel or copper coins, because it takes much time to _____ (2) them. The government _____ (3) permits you to make the payment in _____ (4) What are these notes really? They are a kind of money although they are made of _____ (5) instead of metal.

SubQuestion No : 19

Q.1
9 Fill in blank (3) with the most appropriate option.

- Ans 1. therefore
 2. so
 3. although
 4. then

Question ID : 9895804118
Chosen Option : --

Comprehension:

In the following passage some words have been deleted. Fill in the blanks with the help of the alternatives given.

Suppose you have to make a payment of Rs. 100, you can do so in coins; but it would be _____ (1) to pay in nickel or copper coins, because it takes much time to _____ (2) them. The government _____ (3) permits you to make the payment in _____ (4) What are these notes really? They are a kind of money although they are made of _____ (5) instead of metal.

SubQuestion No : 20

Q.2
0 Fill in blank (4) with the most appropriate option.

- Ans
- 1. currency
 - 2. notes
 - 3. coins
 - 4. card

Question ID : 9895804119
Chosen Option : --

Comprehension:

In the following passage some words have been deleted. Fill in the blanks with the help of the alternatives given.

Suppose you have to make a payment of Rs. 100, you can do so in coins; but it would be _____ (1) to pay in nickel or copper coins, because it takes much time to _____ (2) them. The government _____ (3) permits you to make the payment in _____ (4) What are these notes really? They are a kind of money although they are made of _____ (5) instead of metal.

SubQuestion No : 21

Q.2
1 Fill in blank (5) with the most appropriate option.

- Ans
- 1. wood
 - 2. cloth
 - 3. paper
 - 4. plastic

Question ID : 9895804120
Chosen Option : --

Q.2
2 Select the word which means the same as the group of words given.

A person with odd personality

- Ans
- 1. Eccentric
 - 2. Ecologist
 - 3. Egoist
 - 4. Entomologist

Question ID : 9895804127
Chosen Option : --

Q.2 Identify the segment in the sentence which contains the grammatical error from the given options.

3

Buses run from this bus stand every few minutes because you shall not have to wait.

- Ans 1. Buses run from
 2. because you shall
 3. every few minutes
 4. have to wait

Question ID : 9895804106
 Chosen Option : --

Q.2 Select the most appropriate antonym of the given word.

4

VIGOROUS

- Ans 1. Strong
 2. Curious
 3. Feeble
 4. Trivial

Question ID : 9895804122
 Chosen Option : --

Q.2 Fill in the blanks with the most appropriate words.

5

Rohit taught you such tricks as these, _____?

- Ans 1. didn't he
 2. hasn't he
 3. has he
 4. did he

Question ID : 9895804114
 Chosen Option : --

Section : Hindi Language

Q.1 दिये गये वाक्यांश के लिए एक शब्द दीजिये।

जो आँखों के सामने हो

- Ans 1. विरोध
 2. प्रत्यक्ष
 3. परोक्ष
 4. अक्षि

Question ID : 9895803514
 Chosen Option : 2

Q.2 निम्नलिखित में से उस विकल्प का चयन करें जो ' कोल्हू का बैल होना ' मुहावरे का अर्थ व्यक्त करता है।

- Ans 1. रात-दिन काम में लगे रहना

2. बैल से कोल्हू चलवाना
3. बैल के समान बुद्धि होना
4. कोल्हू में बैल जोतना

Question ID : 9895803513
Chosen Option : 1

Q.3 सही वर्तनी वाले शब्द का चयन करें।

- Ans 1. उत्कृष्ठ
2. उत्कृष्ट
3. उत्कृश्ट
4. उतकृष्ट

Question ID : 9895803516
Chosen Option : 1

Q.4 दिए गए शब्द का विलोम चुनें।

घृणा

- Ans 1. प्रेम
2. द्वेष
3. निंदा
4. ईर्ष्या

Question ID : 9895803509
Chosen Option : 1

Q.5 दिए गए वाक्य का वह भाग ज्ञात करें जिसमें कोई त्रुटि है।

भाषण एक सामाजिक कला है जिसकी संबंध विभिन्न समस्याओं से होता है।

- Ans 1. विभिन्न समस्याओं से
2. जिसकी संबंध
3. होता है।
4. भाषण एक सामाजिक कला है

Question ID : 9895803493
Chosen Option : 2

Q.6 सही वर्तनी वाले शब्द का चयन करें।

- Ans 1. वयवस्था
2. व्यावस्था
3. व्यवस्था
4. व्यवसथा

Question ID : 9895803517
Chosen Option : 3

Q.7 दिए गए शब्द के पर्यायवाची शब्द का चयन करें।

कृपण

Ans

- 1. कंजूस
- 2. कृपा
- 3. कृतज्ञ
- 4. कृपाण

Question ID : 9895803510
Chosen Option : 1

Q.8 दिए गए वाक्य में रेखांकित खंड को प्रतिस्थापित करने के लिए सबसे उपयुक्त विकल्प का चयन करें।

एक सूखे कागज से हाथ में लेकर गोला बना लो।

Ans

- 1. कागज की हाथ को लेकर
- 2. कागज को हाथ से लेकर
- 3. कागज से हाथ से लेकर
- 4. कागज को हाथ में लेकर

Question ID : 9895803495
Chosen Option : 4

Q.9 रिक्त स्थान को भरने के लिए सबसे उपयुक्त शब्द का चयन करें।

पुस्तक का _____ फट गया।

Ans

- 1. शब्द
- 2. वाक्य
- 3. पन्ना
- 4. पद

Question ID : 9895803500
Chosen Option : 3

Q.10 दिये गये वाक्यांश के लिए एक शब्द दीजिये।

जो कभी बूढ़ा न हो

Ans

- 1. अजर
- 2. अमर
- 3. यौवन
- 4. अमृत

Question ID : 9895803515
Chosen Option : 1

Q.1
1 दिए गए वाक्य में रेखांकित खंड को प्रतिस्थापित करने के लिए सबसे उपयुक्त विकल्प का चयन करें।

जब इच्छाएँ हमारी पर हावी हो जाती हैं तो हमारा मन सदा असंतुष्ट रहता है।

Ans

1. जब इच्छाएँ उन पर हावी हो जाती हैं
2. जब इच्छाएँ हम पर हावी हो जाती हैं
3. जब इच्छाएँ हम पर हावी हो जाते हैं
4. जब इच्छाएँ हमारों पर हावी हो जाती हैं

Question ID : 9895803497
Chosen Option : 2

Q.1
2 रिक्त स्थान को भरने के लिए सबसे उपयुक्त शब्द का चयन करें।

कालिदास बहुत _____ कवि थे।

Ans

1. बड़े
2. रोगी
3. छोटे
4. मूर्ख

Question ID : 9895803501
Chosen Option : 4

Q.1
3 दिए गए शब्द का विलोम चुनें।

उर्वर

Ans

1. पराया
2. ऊसर
3. पतन
4. घृणा

Question ID : 9895803508
Chosen Option : 2

Comprehension:

दिए गए अनुच्छेद में कुछ शब्द हटा दिए गए हैं। दिए गए विकल्पों की सहायता से रिक्त स्थान भरें। प्रत्येक संख्या के लिए सबसे उपयुक्त विकल्प का चयन करें।

संसार में बहुत सी वस्तुएँ बार-बार मिल सकती हैं। किंतु चार वस्तुएँ कभी _____ (1) नहीं आतीं: मुँह से निकला _____ (2), कमान से निकला तीर, खोया अबसर और बीता समय। सफलता का पहला मंत्र है - समय प्रबंधन। 'कल नहीं आज' यह _____ (3) का परम मंत्र है। हमें जीवन के हर क्षेत्र में इसका _____ (4) करना चाहिए। जो आज को सार्थक बनाता है, उसके भूत और भविष्य _____ (5) हो जाते हैं।

SubQuestion No : 14

Q.1
4

गद्यांश में संकेतित रिक्त स्थान (1) के लिए उपयुक्त

शब्द होगा -

- Ans
- 1. बनकर
 - 2. उठकर
 - 3. लौटकर
 - 4. मिलकर

Question ID : 9895803503
Chosen Option : 3

Comprehension:

दिए गए अनुच्छेद में कुछ शब्द हटा दिए गए हैं। दिए गए विकल्पों की सहायता से रिक्त स्थान भरें। प्रत्येक संख्या के लिए सबसे उपयुक्त विकल्प का चयन करें।

संसार में बहुत सी वस्तुएँ बार-बार मिल सकती हैं। किंतु चार वस्तुएँ कभी _____ (1) नहीं आतीं: मुँह से निकला _____ (2), कमान से निकला तीर, खोया अवसर और बीता समय। सफलता का पहला मंत्र है - समय प्रबंधन। 'कल नहीं आज' यह _____ (3) का परम मंत्र है। हमें जीवन के हर क्षेत्र में इसका _____ (4) करना चाहिए। जो आज को सार्थक बनाता है, उसके भूत और भविष्य _____ (5) हो जाते हैं।

SubQuestion No : 15

Q.1
5 गद्यांश में संकेतित रिक्त स्थान (2) के लिए उपयुक्त शब्द होगा -

- Ans
- 1. पानी
 - 2. कंठ
 - 3. शब्द
 - 4. खाना

Question ID : 9895803504
Chosen Option : 3

Comprehension:

दिए गए अनुच्छेद में कुछ शब्द हटा दिए गए हैं। दिए गए विकल्पों की सहायता से रिक्त स्थान भरें। प्रत्येक संख्या के लिए सबसे उपयुक्त विकल्प का चयन करें।

संसार में बहुत सी वस्तुएँ बार-बार मिल सकती हैं। किंतु चार वस्तुएँ कभी _____ (1) नहीं आतीं: मुँह से निकला _____ (2), कमान से निकला तीर, खोया अवसर और बीता समय। सफलता का पहला मंत्र है - समय प्रबंधन। 'कल नहीं आज' यह _____ (3) का परम मंत्र है। हमें जीवन के हर क्षेत्र में इसका _____ (4) करना चाहिए। जो आज को सार्थक बनाता है, उसके भूत और भविष्य _____ (5) हो जाते हैं।

SubQuestion No : 16

Q.1
6 गद्यांश में संकेतित रिक्त स्थान (3) के लिए उपयुक्त शब्द होगा -

- Ans
- 1. असफलता
 - 2. हार
 - 3. सफलता
 - 4. निराशा

Question ID : 9895803505
Chosen Option : 3

Comprehension:

दिए गए अनुच्छेद में कुछ शब्द हटा दिए गए हैं। दिए गए विकल्पों की सहायता से रिक्त स्थान भरें। प्रत्येक संख्या के लिए सबसे उपयुक्त विकल्प का चयन करें।

संसार में बहुत सी वस्तुएँ बार-बार मिल सकती हैं। किंतु चार वस्तुएँ कभी _____ (1) नहीं आतीं: मुँह से निकला _____ (2), कमान से निकला तीर, खोया अवसर और बीता समय। सफलता का पहला मंत्र है - समय प्रबंधन। 'कल नहीं आज' यह _____ (3) का परम मंत्र है। हमें जीवन के हर क्षेत्र में इसका _____ (4) करना चाहिए। जो आज को सार्थक बनाता है, उसके भूत और भविष्य _____ (5) हो जाते हैं।

SubQuestion No : 17

Q.1
7 गद्यांश में संकेतित रिक्त स्थान (4) के लिए उपयुक्त शब्द होगा -

- Ans
- 1. परिष्कार
 - 2. अनुसरण
 - 3. तिरस्कार
 - 4. उपहास

Question ID : 9895803506
Chosen Option : 2

Comprehension:

दिए गए अनुच्छेद में कुछ शब्द हटा दिए गए हैं। दिए गए विकल्पों की सहायता से रिक्त स्थान भरें। प्रत्येक संख्या के लिए सबसे उपयुक्त विकल्प का चयन करें।

संसार में बहुत सी वस्तुएँ बार-बार मिल सकती हैं। किंतु चार वस्तुएँ कभी _____ (1) नहीं आतीं: मुँह से निकला _____ (2), कमान से निकला तीर, खोया अवसर और बीता समय। सफलता का पहला मंत्र है - समय प्रबंधन। 'कल नहीं आज' यह _____ (3) का परम मंत्र है। हमें जीवन के हर क्षेत्र में इसका _____ (4) करना चाहिए। जो आज को सार्थक बनाता है, उसके भूत और भविष्य _____ (5) हो जाते हैं।

SubQuestion No : 18

Q.1
8 गद्यांश में संकेतित रिक्त स्थान (5) के लिए उपयुक्त शब्द होगा -

- Ans
- 1. निष्फल
 - 2. विफल

3. सफल
 4. असफल

Question ID : 9895803507
 Chosen Option : 3

Q.1
 9 दिए गए शब्द के पर्यायवाची शब्द का चयन करें।

किसलय

- Ans 1. विद्यालय
 2. भोजनालय
 3. पुस्तकालय
 4. नवपल्लव

Question ID : 9895803511
 Chosen Option : 4

Q.2
 0 रिक्त स्थान को भरने के लिए सबसे उपयुक्त शब्द का चयन करें।

मछली _____ में तैरती है।

- Ans 1. बादल
 2. पानी
 3. आकाश
 4. तेल

Question ID : 9895803498
 Chosen Option : 2

Q.2
 1 दिए गए वाक्य का वह भाग ज्ञात करें जिसमें कोई त्रुटि है।

वास्तव पर अकेलापन विधाता का एक अभिशाप है।

- Ans 1. अकेलापन
 2. वास्तव पर
 3. विधाता का
 4. एक अभिशाप है।

Question ID : 9895803494
 Chosen Option : 2

Q.2
 2 निम्नलिखित में से उस विकल्प का चयन करें जो ' आँख खुलना ' मुहावरे का अर्थ व्यक्त करता है।

- Ans 1. वास्तविकता का बोध होना
 2. भ्रमित होना
 3. गलत काम करना
 4. अपनी आँखें खोलना

Question ID : 9895803512

Chosen Option : 1

Q.2
3 रिक्त स्थान को भरने के लिए सबसे उपयुक्त शब्द का चयन करें।

मेरे प्रश्न का _____ कौन देगा ?

- Ans
- 1. फल
 - 2. उत्तर
 - 3. शब्द
 - 4. पुरस्कार

Question ID : 9895803499
Chosen Option : 2

Q.2
4 दिए गए वाक्य में रेखांकित खंड को प्रतिस्थापित करने के लिए सबसे उपयुक्त विकल्प का चयन करें।

गरीब व्यक्ति आशा और विश्वास पर सहारे रात बीतने की प्रतीक्षा करता है।

- Ans
- 1. आशा और विश्वास का सहारा
 - 2. आशा और विश्वास से सहारे
 - 3. आशा और विश्वास के सहारे
 - 4. आशा और विश्वास पर सहारा

Question ID : 9895803496
Chosen Option : 3

Q.2
5 दिए गए वाक्य का वह भाग ज्ञात करें जिसमें कोई त्रुटि है।

इस सरकार का राज में आटे-दाल के दाम सातवें आसमान पर पहुँच गए हैं।

- Ans
- 1. सातवें आसमान पर
 - 2. इस सरकार का राज में
 - 3. पहुँच गए हैं।
 - 4. आटे-दाल के दाम

Question ID : 9895803492
Chosen Option : 2

Constable (GD) in CAPFs, NIA, SSF and Rifleman (GD) in Assam Rifles Examination, 2018

Roll No. :	
Registration No.	
Name :	
Exam Venue :	
Exam Time :	12:30 PM - 2:00 PM
Exam Date :	12/02/2019

Section : General Section

Q.1 उस विकल्प का चयन करें जो सही रूप में रिक्त स्थान को भरे और श्रृंखला को पूरा करें।

7, 8, 16, 43, ?

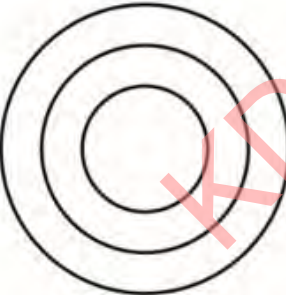

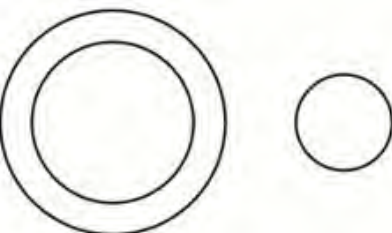
- Ans
1. 111
2. 113
3. 107
4. 109

Question ID : 9895804681
Chosen Option : 3

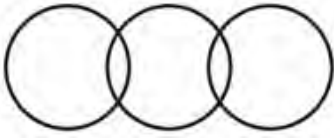
Q.2 निम्नलिखित में से कौन सा वेन रेखाचित्र दिए गए वर्ग के बीच के संबंध को सही दर्शाता है?

ऑस्ट्रिया, डेनमार्क, देश

Ans

1. 
2. 
3. 

X 4.



Question ID : 9895804691
Chosen Option : 1

Q.3 दिए गए विकल्पों में से असंगत संख्या का चयन करें।

- Ans X 1. 91
X 2. 78
X 3. 65
✓ 4. 24

Question ID : 9895804683
Chosen Option : 1

Q.4 उस विकल्प का चयन करें जो सही रूप में रिक्त स्थान को भरे और श्रृंखला को पूरा करें।

MHW, KJU, ILS, GNQ, ___?

- Ans X 1. FPO
X 2. EPQ
X 3. EOP
✓ 4. EPO

Question ID : 9895804667
Chosen Option : 4

Q.5 नीचे दिए गए कथनों के बाद दो निष्कर्ष I और II दिए गए हैं। यह जानते हुए कि कथनों में दी गई जानकारी सत्य है, भले ही वह सर्वज्ञात तथ्यों से भिन्न प्रतीत होती हो और यह निर्णय करें कि कौन सा / से निष्कर्ष तार्किक और निश्चित रूप से कथन में दी गई जानकारी का अनुसरण करता है / करते हैं।

कथन:

- 1) सभी तितलियाँ सरीसृप हैं।
- 2) सभी सरीसृप स्तनपायी हैं।

निष्कर्ष:

- I. सभी स्तनपायी तितलियाँ हैं।
- II. सभी तितलियाँ स्तनपायी हैं।

- Ans X 1. दोनों निष्कर्ष अनुसरण करते हैं।
X 2. केवल निष्कर्ष I अनुसरण करता है।
X 3. या तो निष्कर्ष I या निष्कर्ष II अनुसरण करता है।
✓ 4. केवल निष्कर्ष II अनुसरण करता है।

Question ID : 9895804678
Chosen Option : 4

Q.6 निम्न अक्षर समूहों में से कौन सा एक इस समूह का हिस्सा नहीं है?

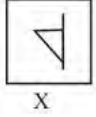
- Ans X 1. EG

2. CI
 3. AK
 4. FH

Question ID : 9895804668

Chosen Option : 4

Q.7 विकल्पों में से उस आकृति का चयन करें जिसमें 'X' से चिह्नित आकृति समाहित है।



Ans

- 1.
- 2.
- 3.
- 4.

Question ID : 9895804688

Chosen Option : 2

Q.8 पैटर्न के साथ एक वर्गाकार पारदर्शी कागज पत्रक दिया गया है। पारदर्शी कागज पत्रक के बिंदुंकित रेखा पर मोड़े जाने पर पैटर्न कैसा दिखाई देगा?



Ans

- 1.
- 2.
- 3.
- 4.

Question ID : 9895804690

Chosen Option : 2

Q.9

उस विकल्प का चयन करें जो दिए गए पैटर्न में प्रश्न चिह्न (?) के स्थान पर आएगा।

17	15	13
7	6	5
66	51	?

- Ans 1. 38
 2. 19
 3. 45
 4. 17

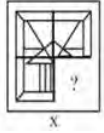
Question ID : 9895804684
 Chosen Option : 3

Q.1 एक निश्चित कूट भाषा में, ASSUME को EMUASS के रूप में लिखा जाता है। इसी कूट में NEEDLE को कैसे लिखा जाएगा?

- Ans 1. ELDNEE
 2. EDLNEE
 3. ELDEEN
 4. EJDNEE

Question ID : 9895804673
 Chosen Option : 1

Q.1 दिए गए चार विकल्पों में से उस आकृति को चुनें, जिसे आकृति X के रिक्त स्थान में (बिना घुमाए) रखने पर पैटर्न पूरा हो जाएगा।



- Ans 1.
 2.
 3.
 4.

Question ID : 9895804687
 Chosen Option : 3

Q.1 उस विकल्प का चयन करें जो तीसरी संख्या से उसी प्रकार से संबंधित है जिस प्रकार से दूसरी संख्या पहली संख्या से संबंधित है।

15 : 270 :: 13 : ?

- Ans 1. 208

2. 275

3. 144

4. 169

Question ID : 9895804682
Chosen Option : 1

Q.1 वह विकल्प चुनें जो तीसरे पद से उसी प्रकार से संबंधित है जिस प्रकार से दूसरा पद पहले पद से संबंधित है।

ईरान : रियाल :: इराक : ?

Ans

1. युद्ध

2. दिरहम

3. दीनार

4. रियाल

Question ID : 9895804670
Chosen Option : 2

Q.1 एक निश्चित कूट भाषा में, TOUCH को 68 के रूप में लिखा जाता है। इसी कूट ERROR को कैसे लिखा जाएगा?

4

Ans

1. 59

2. 55

3. 61

4. 54

Question ID : 9895804674
Chosen Option : 3

Q.1 निम्नलिखित समीकरण को सही करने के लिए विकल्पों में दिए गए किन दो चिहनों को परस्पर बदला जाना चाहिए?

5

$14 + 16 \times 14 - 7 \div 3 = 43$

Ans

1. - और ÷

2. + और -

3. × और ÷

4. - और ×

Question ID : 9895804685
Chosen Option : 1

Q.1 दिए गए विकल्पों में से असंगत का चयन करें।

6

Ans

1. मगरमच्छ

2. लोमड़ी

3. शेर

4. बाघ

Question ID : 9895804669
Chosen Option : 1

Q.1 आठ दोस्त A, B, C, D, E, F, H और G दोपहर के भोजन के लिए एक गोल मेज़ के चारों ओर एक दूसरे की तरफ मुंह करके बैठे हैं। A, F के सामने है और B के बाएं तीसरे स्थान पर है। G, F और D के बीच में है। H, D के बाएँ ओर है। E, C और A के बीच में है। C के बाएँ दूसरे स्थान पर कौन बैठा है?

7

- Ans
- 1. D
 - 2. F
 - 3. A
 - 4. B

Question ID : 9895804676
Chosen Option : 2

Q.1 नीचे दिए गए कथनों के बाद दो निष्कर्ष I और II दिए गए हैं। यह मानते हुए कि कथनों में दी गई जानकारी सत्य है, भले ही वह सर्वज्ञात तथ्यों से भिन्न प्रतीत होती हो और यह निर्णय करें कि कौन सा / से निष्कर्ष तार्किक और निश्चित रूप से कथन में दी गई जानकारी का अनुसरण करता है / करते हैं।

कथन:

- 1) कुछ मठवासी/भिक्षुअपराधी हैं।
- 2) कुछ अपराधी सैनिक हैं।

निष्कर्ष

- I. कुछ अपराधी मठवासी/भिक्षु हैं।
- II. कुछ सैनिक अपराधी हैं।

- Ans
- 1. केवल निष्कर्ष II अनुसरण करता है।
 - 2. दोनों निष्कर्ष अनुसरण करते हैं।
 - 3. केवल निष्कर्ष I अनुसरण करता है।
 - 4. न तो निष्कर्ष I और न ही निष्कर्ष II अनुसरण करता है।

Question ID : 9895804679
Chosen Option : 1

Q.1 उस विकल्प का चयन करें जो तीसरे पद से उसी प्रकार से संबंधित है जिस प्रकार से दूसरा पद पहले पद से संबंधित है।

CGK : XTP :: GIM : ?

- Ans
- 1. TRN
 - 2. TPN
 - 3. TQN
 - 4. TSN

Question ID : 9895804672
Chosen Option : 1

Q.2 J, K, L, M, N और O छह शिक्षक हैं। प्रत्येक शिक्षक हिंदी, अंग्रेजी, गणित, विज्ञान, सामाजिक विज्ञान और कला में से एक विषय पढ़ाता है, जरूरी नहीं कि इसी क्रम में पढ़ाता हो। प्रत्येक शिक्षक सोमवार से शनिवार तक केवल एक ही दिन पढ़ाता है, जरूरी नहीं कि इसी क्रम में पढ़ाता हो। J शनिवार को कला पढ़ाता है। L न तो अंग्रेजी पढ़ाता है और न ही सामाजिक विज्ञान पढ़ाता है, लेकिन वह गुरुवार को पढ़ाता है। बुधवार का दिन गणित के लिए आरक्षित है जो K पढ़ाता है। O, N से एक दिन पहले विज्ञान पढ़ाता है। सामाजिक विज्ञान कला पढ़ाए जाने वाले दिन से एक दिन पहले पढ़ाया जाता है। L कौन सा विषय पढ़ाता है?

- Ans
- 1. विज्ञान
 - 2. गणित
 - 3. हिंदी
 - 4. कला

Question ID : 9895804677
Chosen Option : 1

Q.2 1 सात दोस्त O, P, Q, R, S, T और U एक पंक्ति में बैठकर फिल्म देख रहे हैं। S एक छोर पर बैठा है। Q, S के दाएँ दूसरे स्थान पर बैठा है। P, O और Q के बीच बैठा है। U किसी भी छोर पर नहीं बैठा है। R, T के बाएँ ओर बैठा है। बिल्कुल दाएँ छोर पर कौन बैठा है?

- Ans
1. T
2. Q
3. P
4. R

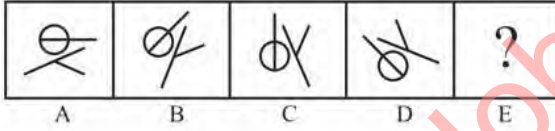
Question ID : 9895804675
Chosen Option : 4

Q.2 2 उस विकल्प का चयन करें जो सही रूप में रिक्त स्थान को भरे और श्रृंखला को पूरा करें।
3, 18, 48, 93, ?

- Ans
1. 147
2. 247
3. 153
4. 202

Question ID : 9895804680
Chosen Option : --

Q.2 3 विकल्पों में से उस आकृति का चयन करें जो दी गई श्रृंखला में अगले स्थान पर आएगी।



- Ans
- 1.
- 2.
- 3.
- 4.

Question ID : 9895804686
Chosen Option : 3

Q.2 4 उस विकल्प का चयन करें जो तीसरे पद से उसी प्रकार से संबंधित है जिस प्रकार से दूसरा पद पहले पद से संबंधित है।

मेमना : उछलना :: चूहा : ?

- Ans
- 1. छलांग
 - 2. इठलाना / अकड़ना
 - 3. दौड़ना
 - 4. झूलना

Question ID : 9895804671
Chosen Option : 3

Q.2 उस विकल्प का चयन करें जो दर्पण के दायाँ ओर रखे जाने पर दिए गए शब्द की दर्पण छवि से सर्वाधिक मेल खाता है।

RUPTURE

- Ans
- 1. RUPTURE
 - 2. ERUTUR
 - 3. ERUTUR
 - 4. ERUTUR

Question ID : 9895804689
Chosen Option : 1

Q.2 6 ब्रह्मो समाज की स्थापना किसकी सबसे बड़ी उपलब्धि थी?

- Ans
- 1. स्वामी विवेकानंद
 - 2. राजा राम मोहन राँय
 - 3. भीमराव अंबेडकर
 - 4. अरविन्द घोष

Question ID : 9895802426
Chosen Option : 1

Q.2 7 हिमालय की सबसे बाहरी श्रृंखला कौन सी है?

- Ans
- 1. पीर पंजाल
 - 2. कैलाश
 - 3. शिवालिक
 - 4. हिमाद्री

Question ID : 9895802429
Chosen Option : 1

Q.2 8 वैश्विक प्रतियोगिता में स्वर्ण पदक जीतने वाली पहली भारतीय जिम्नास्ट कौन थीं?

- Ans
- 1. हिमा दास

2. साक्षी मलिक
3. दीपा कर्माकर
4. सीमा पूनिया

Question ID : 9895802427
Chosen Option : 4

Q.2
9 _____ भारत के मशहूर शहनाई वादक हैं।

- Ans 1. लतीफ खान
2. हरि प्रसाद
3. बिस्मिल्लाह खान
4. रवि शंकर

Question ID : 9895802439
Chosen Option : 3

Q.3
0 पुस्तक 'द पैराडॉक्सिकल प्राइम मिनिस्टर' _____ द्वारा लिखी गई है।

- Ans 1. ज्योतिरादित्य सिंधिया
2. अशोक गेहलोत
3. शशि थरूर
4. डॉ मनमोहन सिंह

Question ID : 9895802443
Chosen Option : --

Q.3
1 सौर मंडल की खोज किसने की?

- Ans 1. कोपरनिकस
2. न्यूटन
3. मर्फी
4. वास्को द गामा

Question ID : 9895802441
Chosen Option : 3

Q.3
2 प्लासी का युद्ध कौन से वर्ष में लड़ा गया था?

- Ans 1. 1900
2. 1757
3. 1857
4. 1957

Question ID : 9895802425
Chosen Option : 2

Q.3
3 _____ 2018 में 90वें ऑस्कर अवार्ड के लिए भेजी गई एक भारतीय फिल्म थी।

- Ans 1. न्यूटन
 2. जीरो
 3. राजी
 4. संजू

Question ID : 9895802442
 Chosen Option : 4

Q.3
 4 भारतीय संगीतकार _____ ने अकादमी पुरस्कार जीता है।

- Ans 1. एआर रहमान
 2. सोनू निगम
 3. अनु मलिक
 4. आरडी बर्मन

Question ID : 9895802440
 Chosen Option : 1

Q.3
 5 उस प्रक्रिया को क्या कहा जाता है जिसके द्वारा आनुवांशिक रूप से समान व्यक्ति उत्पादित किए जा सकते हैं?

- Ans 1. प्रजनन
 2. प्रकाश संश्लेषण
 3. स्कैनिंग
 4. क्लोनिंग

Question ID : 9895802445
 Chosen Option : 1

Q.3
 6 रबी फसलों की बुवाई _____ में की जाती है।

- Ans 1. अप्रैल-मई
 2. मई-जून
 3. अक्टूबर-नवंबर
 4. जनवरी-फरवरी

Question ID : 9895802432
 Chosen Option : 4

Q.3
 7 चुनाव आयोग का प्रमुख _____ द्वारा नियुक्त किया जाता है।

- Ans 1. केंद्र सरकार
 2. केंद्र सरकार
 3. भारत के राष्ट्रपति
 4. भारत के मुख्य न्यायाधीश

Question ID : 9895802436
Chosen Option : 3

Q.3
8 शंकर अंतर्राष्ट्रीय गुड़िया संग्रहालय _____ में स्थित है।

- Ans
- 1. पुणे
 - 2. मुंबई
 - 3. कोलकाता
 - 4. नई दिल्ली

Question ID : 9895802438
Chosen Option : 3

Q.3
9 लोकतंत्र में, सत्तारूढ़ दल किस के प्रति उत्तरदायी होता है?

- Ans
- 1. न्यायपालिका
 - 2. लोगों
 - 3. विपक्ष
 - 4. इसके नेताओं

Question ID : 9895802435
Chosen Option : --

Q.4
0 कौन सा मूत्र प्रणाली का हिस्सा नहीं है?

- Ans
- 1. मूत्रमार्ग
 - 2. मूत्राशय
 - 3. मूत्रवाहिनी
 - 4. ब्रांकाई

Question ID : 9895802447
Chosen Option : --

Q.4
1 मनुष्य, वनस्पति और जीव-जंतु, मत्स्य, पशुधन आदि जीवमंडल से प्राप्त संसाधन, जिनमें जीवन होता है, वे क्या कहलाते हैं?

- Ans
- 1. जैव संसाधन
 - 2. नवीकरणीय संसाधन
 - 3. अजैविक संसाधन
 - 4. संभावित संसाधन

Question ID : 9895802430
Chosen Option : --

Q.4
2 "भारत का लौह पुरुष" किस को कहा जाता है?

- Ans
- 1. बाल गंगाधर तिलक

2. वल्लभभाई पटेल
3. जवाहरलाल नेहरु
4. मोहनदास करमचन्द गाँधी

Question ID : 9895802424
Chosen Option : --

Q.4
3 निम्नलिखित में से कौन सा चुनाव आयोग का महत्वपूर्ण कर्तव्य नहीं है?

- Ans 1. चुनाव का निरीक्षण।
2. स्थानीय चुनाव न करना।
3. प्रत्यक्ष चुनाव।
4. चुनाव का सञ्चालन और नियंत्रण।

Question ID : 9895802437
Chosen Option : --

Q.4
4 _____ पौधों में जल परिवहन का कार्य करता है।

- Ans 1. क्लोरोप्लास्ट
2. जाइलम
3. फ्लोएम
4. शिराएं

Question ID : 9895802446
Chosen Option : --

Q.4
5 _____ का उद्देश्य ग्रामीण क्षेत्रों में स्व-रोजगार के अवसर पैदा करना है।

- Ans 1. प्रधान मंत्री ग्रामोदय योजना
2. प्रधान मंत्री उज्ज्वला योजना
3. ग्रामीण रोजगार सृजन कार्यक्रम
4. गरीबी विरोधी कार्यक्रम

Question ID : 9895802433
Chosen Option : --

Q.4
6 निम्न में से कौन सा डिजिटल लेनदेन नहीं है?

- Ans 1. क्रेडिट कार्ड लेनदेन
2. एटीएम लेनदेन
3. पेटीएम
4. नकद लेनदेन

Question ID : 9895802434
Chosen Option : --

Q.4
7 स्वर्ण का आणविक सूत्र क्या है?

- Ans
- 1. Ag
 - 2. Al
 - 3. Au
 - 4. G

Question ID : 9895802444

Chosen Option : --

Q.4
8 निम्न में से कौन-सी मिश्रित धातु नहीं है?

- Ans
- 1. पीतल
 - 2. टांका
 - 3. कांसा
 - 4. चांदी

Question ID : 9895802448

Chosen Option : --

Q.4
9 दुनिया का सबसे ऊंचा युद्धक्षेत्र कौन सा है?

- Ans
- 1. गंगोत्री ग्लेशियर
 - 2. हरि पर्वत ग्लेशियर
 - 3. नुब्रा ग्लेशियर
 - 4. सियाचिन ग्लेशियर

Question ID : 9895802431

Chosen Option : --

Q.5
0 1948 ओलंपिक्स में पहला सुवर्ण पदक जीतनेवाली भारतीय राष्ट्रीय फील्ड हॉकी टीम का कप्तान कौन था?

- Ans
- 1. किशन लाल
 - 2. सरदार सिंह
 - 3. आकाशदीप सिंह
 - 4. मनप्रीत सिंह

Question ID : 9895802428

Chosen Option : --

Q.5
1 A तथा C मिलकर एक कार्य को 120 दिन में पूरा कर सकते हैं, C तथा E मिलकर समान कार्य को 80 दिन में पूरा कर सकते हैं, A तथा E मिलकर समान कार्य को 160 दिन में पूरा कर सकते हैं। A, C तथा E मिलकर समान कार्य को कितने दिन में पूरा कर सकते हैं?

- Ans
- 1. 480/13 दिन
 - 2. 120/13 दिन
 - 3. 240/13 दिन
 - 4. 960/13 दिन

Question ID : 9895804299
Chosen Option : 3

Q.5 रमेश 75 वस्तुएं ₹ 10800 कि खरीदता है तथा उनको 5 वस्तुओं के विक्रय मूल्य के बराबर हानि पर बेचता है एक वस्तु का विक्रय मूल्य क्या होगा?

- Ans
- 1. ₹ 144
 - 2. ₹ 156
 - 3. ₹ 135
 - 4. ₹ 132

Question ID : 9895804293
Chosen Option : 1

Q.5 ₹ 4200 की एक राशि साधारण ब्याज से 3 वर्षों में ₹ 5082 हो जाती है। ब्याज की वार्षिक दर क्या है?

- Ans
- 1. 5%
 - 2. 7%
 - 3. 8%
 - 4. 9%

Question ID : 9895804297
Chosen Option : 2

Q.5 दो संख्याओं 16 तथा 20 के महत्तम समापवर्तक तथा लघुत्तम समापवर्त्य का अनुपात क्या होगा?

- Ans
- 1. 1 : 25
 - 2. 4 : 63
 - 3. 1 : 20
 - 4. 1 : 10

Question ID : 9895804284
Chosen Option : 3

Q.5 $22\frac{3}{4} \div \frac{14}{3}$ का $(8 - \frac{1}{5} + 4 - 2 \div \frac{1}{2})$ का मान क्या है?

- Ans
- 1. 91/199
 - 2. 5/8
 - 3. 91/213
 - 4. 3/7

Question ID : 9895804286
Chosen Option : --

Q.5 यदि A, B से 20% कम है, तो $(2B - A)/A$ का मान क्या होगा?

- Ans
- 1. 3/2
 - 2. 4/3
 - 3. 3/4
 - 4. 3/5

Question ID : 9895804291
Chosen Option : 3

Q.5 एक लंबवृत्तीय शंकु का आयतन 2464 से.मी.³ है। यदि शंकु की लंबाई 12 से.मी. है, तो इसके आधार की त्रिज्या क्या होगी?

- Ans
- 1. 12 से.मी.
 - 2. 10 से.मी.
 - 3. 14 से.मी.
 - 4. 8 से.मी.

Question ID : 9895804303
Chosen Option : --

Q.5 एक त्रिभुज की भुजाओं का अनुपात 4 : 3 : 2 है। यदि त्रिभुज का परिमाप 63 से.मी. है, तो सबसे बड़ी भुजा की लंबाई क्या होगी?

- Ans
- 1. 28 से.मी.
 - 2. 21 से.मी.
 - 3. 35 से.मी.
 - 4. 42 से.मी.

Question ID : 9895804295
Chosen Option : --

Q.5 मोहित एक स्थान A से चलना आरंभ करता है तथा स्थान B पर 12 घंटे में पहुँचता है। वह कुल दूरी का 1/5 वाँ भाग 6 कि.मी./घंटा की गति से तय करता है तथा शेष दूरी 8 कि.मी./घंटा की गति से तय करता है। A तथा B के मध्य दूरी क्या है?

- Ans
- 1. 75 कि.मी.
 - 2. 60 कि.मी.
 - 3. 90 कि.मी.
 - 4. 95 कि.मी.

Question ID : 9895804302
Chosen Option : --

Q.6 एक वस्तु का अंकित मूल्य उसके क्रय मूल्य से 60% अधिक है। यदि वस्तु को 20% के लाभ पर बेचा गया है, तो छूट प्रतिशत क्या होगा?

- Ans
- 1. 25%
 - 2. 37.5%
 - 3. 15%
 - 4. 17.5%

Question ID : 9895804289
Chosen Option : --

Q.6 एक दूकानदार 25% की छूट देने के पश्चात् 40% लाभ कमाता है। अंकित मूल्य, क्रय मूल्य से कितना प्रतिशत अधिक है?

- Ans
- 1. 75%
 - 2. 86.67%
 - 3. 85%

✗ 4. 80%

Question ID : 9895804292

Chosen Option : 2

Q.6 8 संख्याओं का औसत 44 है। यदि प्रत्येक संख्या में 'Y' जोड़ा जाता है, तो औसत 47 बन जाता है। 'Y' का मान क्या है?

Ans ✗ 1. 8

✓ 2. 3

✗ 3. 24

✗ 4. 21

Question ID : 9895804288

Chosen Option : --

Q.6 एक लंबवृत्तीय शंकु का आयतन 1232 से.मी.^3 है। यदि शंकु की लंबाई 24 से.मी. है, तो इसके आधार की त्रिज्या क्या होगी?

Ans ✗ 1. 5 से.मी.

✗ 2. 9 से.मी.

✗ 3. 8 से.मी.

✓ 4. 7 से.मी.

Question ID : 9895804305

Chosen Option : --

Q.6 यदि $P : Q = 5 : 6$ है तथा $R : Q = 25 : 9$ है, तो $P : R$ का अनुपात क्या है?

Ans ✗ 1. 10 : 13

✓ 2. 3 : 10

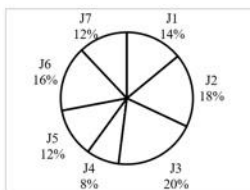
✗ 3. 13 : 10

✗ 4. 10 : 3

Question ID : 9895804296

Chosen Option : 1

Q.6 नीचे दिया गया पाई चार्ट कार बनाने की 7 विभिन्न प्रक्रियाओं J1, J2, J3, J4, J5, J6 तथा J7 में लगने वाले समय को कार बनने में लगने वाले कुल समय के प्रतिशत के रूप में दर्शाता है। एक कार बनने में कुल 1200 घंटे का समय लगता है।



J1 तथा J4 प्रक्रियाओं में लगने वाले समय के बीच का अंतर क्या है?

Ans ✓ 1. 72 घंटे

2. 84 घंटे
3. 60 घंटे
4. 96 घंटे

Question ID : 9895804308
Chosen Option : --

Q.6 एक कार 48 कि.मी./घंटा की गति से एक निश्चित दूरी को 14 घंटे में तय करती है। वह 84 कि.मी./घंटा की गति से समान दूरी को तय करने में कितना समय लेगी?

- Ans 1. 8 घंटे
2. 6 घंटे
3. 12 घंटे
4. 9 घंटे

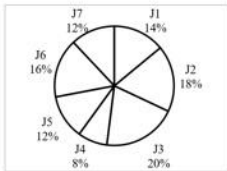
Question ID : 9895804301
Chosen Option : --

Q.6 यदि $X : Y = 7 : 5$ तथा $Y : Z = 7 : 11$ है, तो $X : Y : Z$ का अनुपात क्या है?

- Ans 1. 49 : 35 : 55
2. 49 : 30 : 55
3. 30 : 35 : 49
4. 7 : 5 : 11

Question ID : 9895804294
Chosen Option : --

Q.6 नीचे दिया गया पाई चार्ट कार बनाने की 7 विभिन्न प्रक्रियाओं J1, J2, J3, J4, J5, J6 तथा J7 में लगने वाले समय को कार बनने में लगने वाले कुल समय के प्रतिशत के रूप में दर्शाता है। एक कार बनने में कुल 1200 घंटे का समय लगता है।



J2 तथा J5 प्रक्रियाओं में कुल कितना समय लगेगा?

- Ans 1. 240 घंटे
2. 396 घंटे
3. 312 घंटे
4. 360 घंटे

Question ID : 9895804307
Chosen Option : --

Q.6 नीचे दिया गया डेटा उन व्यक्तियों की संख्या को दर्शाता है जिन्होंने एक निश्चित राशि की बचत की है।

बचत (₹ में)	व्यक्तियों की संख्या
5	1
15	3
20	4
25	2
30	1
35	1
40	2

प्रति व्यक्ति बचत का माध्य क्या है?

- Ans
- 1. ₹ 21.57
 - 2. ₹ 25.54
 - 3. ₹ 23.21
 - 4. ₹ 28.89

Question ID : 9895804290

Chosen Option : --

Q.7 यदि एक 12 वर्ष के लड़के को एक नए लड़के से बदलते हैं, तो 18 लड़कों की औसत आयु 1.5 वर्ष बढ़ जाती है। नए लड़के की आयु क्या है?

- Ans
- 1. 37.5 वर्ष
 - 2. 39 वर्ष
 - 3. 43 वर्ष
 - 4. 35 वर्ष

Question ID : 9895804287

Chosen Option : --

Q.7 12 व्यक्ति एक कार्य के आधे को 9 दिन में पूरा कर सकते हैं। कितने व्यक्ति समान कार्य (संपूर्ण) को 6 दिन में पूरा कर सकते हैं?


- Ans
- 1. 36
 - 2. 42
 - 3. 45
 - 4. 48

Question ID : 9895804300

Chosen Option : --

Q.7
2 नीचे दिए गए बार चार्ट में सात क्रमागत वर्षों Y1, Y2, Y3, Y4, Y5, Y6 तथा

Y7 के लिए व्यय से राजस्व के अनुपात को दर्शाया गया है।



लाभ प्रतिशत किस वर्ष के लिए न्यूनतम है?

- Ans
- 1. Y4
 - 2. Y7
 - 3. Y3
 - 4. निर्धारित नहीं किया जा सकता है

Question ID : 9895804306

Chosen Option : --

Q.7
3 एक राशि पर चौथे वर्ष का चक्रवृद्धि ब्याज ₹ 6000 है तथा पाँचवें वर्ष का चक्रवृद्धि ब्याज ₹ 6750 है (ब्याज का संयोजन वार्षिक किया गया है)। ब्याज दर क्या है?

- Ans
- 1. 20%
 - 2. 15%
 - 3. 25%
 - 4. 12.5%

Question ID : 9895804298

Chosen Option : --

Q.7
4 एक कमरे की लंबाई, चौड़ाई तथा ऊँचाई 16 मीटर, 12 मीटर तथा 15 मीटर है। उस कमरे में रखी जाने वाली सबसे बड़ी छड़ की लंबाई क्या होगी?

- Ans
- 1. 18 मीटर
 - 2. 20 मीटर
 - 3. 24 मीटर
 - 4. 25 मीटर

Question ID : 9895804304

Chosen Option : --

Q.7
5 $10 - [6 - 4 - (2 \div 1 - 2)]$ का मान क्या है?

- Ans
- 1. 8
 - 2. 14
 - 3. 10
 - 4. 12

Question ID : 9895804285

Chosen Option : 2

Section : English Language

Q.1 From the given options, identify the segment in the sentence which contains the grammatical error.

A great fortune in the hands of a fool are a great misfortune.

- Ans
- 1. are a great
 - 2. of a fool
 - 3. in the hands
 - 4. A great fortune

Question ID : 9895804158

Chosen Option : --

Q.2 Select the most appropriate word to fill in the blank.

Mother cuts vegetables _____ a knife.

- Ans
- 1. from
 - 2. with
 - 3. by
 - 4. off

Question ID : 9895804162

Chosen Option : --

Q.3 Select the word which means the same as the group of words given.

One who treats skin diseases

- Ans
- 1. Radiologist
 - 2. Cardiologist
 - 3. Gynecologist
 - 4. Dermatologist

Question ID : 9895804179

Chosen Option : --

Q.4 Select the correctly spelt word.

- Ans
- 1. Accomodate
 - 2. Accommodate
 - 3. Acommodate
 - 4. Akommodate

Question ID : 9895804181

Chosen Option : --

Q.5 Select the word which means the same as the group of words given.

One who repairs leaking water pipes.

- Ans
- 1. Blacksmith
 - 2. Mason
 - 3. Carpenter
 - 4. Plumber

Question ID : 9895804178

Chosen Option : --

Q.6 Select the option that means the same as the given idiom.

Like a cakewalk

- Ans
- 1. Quite difficult
 - 2. Not too easy
 - 3. Extremely difficult
 - 4. Extremely easy

Question ID : 9895804177

Chosen Option : --

Q.7 Select the most appropriate word to fill in the blank.

The flight of birds _____ a pretty sight to watch.

- Ans
- 1. is
 - 2. are
 - 3. have
 - 4. has

Question ID : 9895804163

Chosen Option : --

Q.8 From the given options, identify the segment in the sentence which contains the grammatical error.

On the eleventh hour, she retired from the contest, leaving the field open to her opponent.

- Ans
- 1. retired from
 - 2. leaving the field
 - 3. to her opponent
 - 4. On the eleventh hour

Question ID : 9895804156

Chosen Option : --

Q.9 Select the antonym of the given word.

SAVAGE

- Ans
- 1. Stern
 - 2. Civilized
 - 3. Tribal
 - 4. Rustic

Question ID : 9895804172

Chosen Option : --

Q.10 Select the synonym of the given word

EVERLASTING

- Ans
- 1. Especial
 - 2. Essential
 - 3. Equal
 - 4. Eternal

Question ID : 9895804175
Chosen Option : --

Comprehension:

In the following passage some words have been deleted. Fill in the blanks with the help of the alternatives given.

I have just _____ (1) that it is your birthday on Saturday and so I send you my best wishes. I hope the day itself will be _____ (2) and happy for you. May you be showered _____ (3) health and happiness for all the years to come. I take this opportunity of _____ (4) you from the bottom of my heart for all you have done for _____ (5).

SubQuestion No : 11

Q.1
1 Select the most appropriate option that will fill in the blank number 1.

- Ans
- 1. remember
 - 2. remembered
 - 3. remembering
 - 4. remembers

Question ID : 9895804167
Chosen Option : --

Comprehension:

In the following passage some words have been deleted. Fill in the blanks with the help of the alternatives given.

I have just _____ (1) that it is your birthday on Saturday and so I send you my best wishes. I hope the day itself will be _____ (2) and happy for you. May you be showered _____ (3) health and happiness for all the years to come. I take this opportunity of _____ (4) you from the bottom of my heart for all you have done for _____ (5).

SubQuestion No : 12

Q.1
2 Select the most appropriate option that will fill in the blank number 2.

- Ans
- 1. excited
 - 2. peaceful
 - 3. plentiful
 - 4. suitable

Question ID : 9895804168
Chosen Option : --

Comprehension:

In the following passage some words have been deleted. Fill in the blanks with the help of the alternatives given.

I have just _____ (1) that it is your birthday on Saturday and so I send you my best wishes. I hope the day itself will be _____ (2) and happy for you. May you be showered _____ (3) health and happiness for all the years to come. I take this opportunity of _____ (4) you from the bottom of my heart for all you have done for _____ (5).

SubQuestion No : 13

Q.1
3 Select the most appropriate option that will fill in the blank number 3.

- Ans
- 1. of
 - 2. by
 - 3. from
 - 4. with

Question ID : 9895804169
Chosen Option : --

Comprehension:

In the following passage some words have been deleted. Fill in the blanks with the help of the alternatives given.

I have just _____ (1) that it is your birthday on Saturday and so I send you my best wishes. I hope the day itself will be _____ (2) and happy for you. May you be showered _____ (3) health and happiness for all the years to come. I take this opportunity of _____ (4) you from the bottom of my heart for all you have done for _____ (5).

SubQuestion No : 14

Q.1
4 Select the most appropriate option that will fill in the blank number 4.

- Ans
- 1. thanking
 - 2. wishing
 - 3. congratulating
 - 4. greeting

Question ID : 9895804170
Chosen Option : --

Comprehension:

In the following passage some words have been deleted. Fill in the blanks with the help of the alternatives given.

I have just _____ (1) that it is your birthday on Saturday and so I send you my best wishes. I hope the day itself will be _____ (2) and happy for you. May you be showered _____ (3) health and happiness for all the years to come. I take this opportunity of _____ (4) you from the bottom of my heart for all you have done for _____ (5).

SubQuestion No : 15

Q.1
5 Select the most appropriate option that will fill in the blank number 5.

- Ans
- 1. her
 - 2. them
 - 3. him
 - 4. me

Question ID : 9895804171

Chosen Option : --

Q.1
6 Select the correctly spelt word.

- Ans
- 1. Hanckerchief
 - 2. Hangerchief
 - 3. Hankerchief
 - 4. Handkerchief

Question ID : 9895804180

Chosen Option : --

Q.1
7 Select the most appropriate option to substitute the underlined segment in the given sentence. If there is no need to substitute it, select No Improvement.

A city court ordered the immediate release of a professor described his arrest as illegal.

- Ans
- 1. No improvement
 - 2. describing his arrest
 - 3. describing their arrest
 - 4. describing an arrest

Question ID : 9895804160

Chosen Option : --

Q.1
8 Select the most appropriate option to substitute the underlined segment in the given sentence. If there is no need to substitute it, select No Improvement.

Australia recorded its hot month in January with sweltering conditions expected to persist through April.

- Ans
- 1. its hottest month
 - 2. its more hotter month
 - 3. No improvement
 - 4. its hotter month

Question ID : 9895804159

Chosen Option : --

Q.1
9 Select the most appropriate word to fill in the blank.

This question will be discussed at the meeting _____.

- Ans
- 1. last week
 - 2. tomorrow
 - 3. last year
 - 4. yesterday

Question ID : 9895804165
Chosen Option : --

Q.2
0 From the given options, identify the segment in the sentence which contains the grammatical error.

A woman's real character will always be more visible in his household than anywhere else.

- Ans
- 1. will always be
 - 2. in his household
 - 3. than anywhere else
 - 4. real character

Question ID : 9895804157
Chosen Option : --

Q.2
1 Select the synonym of the given word.

FANATIC

- Ans
- 1. Famed
 - 2. Enthusiast
 - 3. Great
 - 4. Fantastic

Question ID : 9895804174
Chosen Option : --

Q.2
2 Select the option that means the same as the given idiom.

To be under the weather

- Ans
- 1. To feel very hot
 - 2. To feel very cold
 - 3. To not feel well
 - 4. To get very wet

Question ID : 9895804176
Chosen Option : --

Q.2
3 Select the most appropriate option to substitute the underlined segment in the given sentence. If there is no need to substitute it, select No Improvement.

As you make your way in the interior of Red Fort, lush green gardens greet you.

- Ans
- 1. along the interior of

- 2. No improvement
- 3. on the interior of
- 4. into the interior of

Question ID : 9895804161
Chosen Option : --

Q.2
4 Select the most appropriate word to fill in the blank.

The telephone was _____ by Alexander Graham Bell.

- Ans
- 1. researched
 - 2. found
 - 3. discovered
 - 4. invented

Question ID : 9895804164
Chosen Option : --

Q.2
5 Select the antonym of the given word.

COMPULSORY

- Ans
- 1. Choice
 - 2. Important
 - 3. Essential
 - 4. Optional

Question ID : 9895804173
Chosen Option : --

Section : Hindi Language

Q.1 दिए गए वाक्य का वह भाग ज्ञात करें जिसमें कोई त्रुटि है। मनुष्य की सफलता का रहस्य परिश्रम एवं अभ्यास ही हैं और अभ्यास करके वह सफलता को प्राप्त पा लेता है।

- Ans
- 1. और अभ्यास करके वह
 - 2. परिश्रम एवं अभ्यास ही है
 - 3. सफलता को प्राप्त पा लेता है।
 - 4. मनुष्य की सफलता का रहस्य

Question ID : 9895803520
Chosen Option : 2

Q.2 दिए गए वाक्य का वह भाग ज्ञात करें जिसमें कोई त्रुटि है।

समाज में रहकर शक्तिशाली लोगों से बैर जाना ठीक नहीं होता।

- Ans
- 1. बैर जाना
 - 2. शक्तिशाली लोगों से
 - 3. समाज में रहकर

4. ठीक नहीं होता।

Question ID : 9895803518
Chosen Option : 1

Q.3 सही वर्तनी वाले शब्द का चयन करें।

- Ans 1. जनमाध
 2. जन्मांध
 3. जन्मांद
 4. जनमंध

Question ID : 9895803542
Chosen Option : 2

Q.4 रिक्त स्थान को भरने के लिए सबसे उपयुक्त शब्द का चयन करें।

मेज के _____ बिल्ली बैठी है।

- Ans 1. साथ
 2. नीचे
 3. बाहर
 4. भीतर

Question ID : 9895803526
Chosen Option : 2

Q.5 दिए गए शब्द के पर्यायवाची शब्द का चयन करें।

पुलिन

- Ans 1. नवीन
 2. प्राचीन
 3. कगार
 4. कुलीन

Question ID : 9895803537
Chosen Option : 4

Q.6 दिए गए वाक्य में रेखांकित खंड को प्रतिस्थापित करने के लिए सबसे उपयुक्त विकल्प का चयन करें।

अर्जुन ने धनुष से मछली का आँख पर निशाना लगाया।

- Ans 1. धनुष से मछली को आँख पर
 2. धनुष से मछली के आँख पर
 3. मछली से धनुष की आँख पर
 4. धनुष से मछली की आँख पर

Question ID : 9895803521
Chosen Option : 1

Q.7 दिए गए वाक्य में रेखांकित खंड को प्रतिस्थापित करने के लिए सबसे उपयुक्त विकल्प का चयन करें।

किसी वस्तु को तब तक नहीं फेंका जाता जब तक उसकी आवश्यकता बनी रहती है।

- Ans
- 1. जब तक उसका आवश्यकता
 - 2. तब तक उसकी आवश्यकता
 - 3. कब तक उसकी आवश्यकता
 - 4. जब तक उसकी आवश्यकता

Question ID : 9895803523
Chosen Option : 2

Q.8 निम्नलिखित में से उस विकल्प का चयन करें जो ' एक आँख न भाना ' मुहावरे का अर्थ व्यक्त करता है।

- Ans
- 1. काना होना
 - 2. जरा भी अच्छा न लगना
 - 3. बहुत अच्छा लगना
 - 4. एक आँख से देखना

Question ID : 9895803539
Chosen Option : 2

Q.9 दिए गए शब्द के पर्यायवाची शब्द का चयन करें।

विभूति

- Ans
- 1. ऐश्वर्य
 - 2. प्रतिभूति
 - 3. अनुभूति
 - 4. सुंदरता

Question ID : 9895803536
Chosen Option : 3

Q.10 दिये गये वाक्यांश के लिए एक शब्द चुनिए।

जो भूमि उपजाऊ न हो

- Ans
- 1. उर्वर
 - 2. मैदान
 - 3. दलदल
 - 4. बंजर

Question ID : 9895803541
Chosen Option : 4

Q.1 दिए गए वाक्य का वह भाग ज्ञात करें जिसमें कोई वृद्धि है। सभी महिलाएँ तुम्हारी तरह हिम्मत वाला होती तो गुंडागर्दी की घटनाओं में वृद्धि न होती।

Ans

1. गुंडागर्दी की घटनाओं में
2. सभी महिलाएँ तुम्हारी तरह
3. वृद्धि न होती।
4. हिम्मत वाला होती तो

Question ID : 9895803519
Chosen Option : 2

Q.1
2 दिये गये वाक्यांश के लिए एक शब्द चुनिए।

मांस खाने वाला

- Ans 1. सर्वहारी
2. शाकाहारी
3. मांसाहारी
4. अल्पाहारी

Question ID : 9895803540
Chosen Option : 3

Q.1
3 सही वर्तनी वाले शब्द का चयन करें।

- Ans 1. अलपायु
2. अल्पायु
3. आलपायु
4. अल्पायू

Question ID : 9895803543
Chosen Option : 2

Q.1
4 दिए गए वाक्य में रेखांकित खंड को प्रतिस्थापित करने के लिए सबसे उपयुक्त विकल्प का चयन करें।

मुझे अभी अपना गृह कार्य पूरा करने हैं, नहीं तो गुरु जी से डाँट पड़ेगी।

- Ans 1. गृहकार्य पूरी करने हैं
2. गृहकार्य पूरे करना है
3. गृहकार्य में पूरे करने हैं
4. गृहकार्य पूरा करना है

Question ID : 9895803522
Chosen Option : 4

Q.1
5 दिए गए शब्द का विलोम चुनें।

उत्कृष्ट

- Ans 1. संकरी

2. कष्ट
 3. कृष्ण
 4. निकृष्ट

Question ID : 9895803534
 Chosen Option : 4

Q.1
 6 रिक्त स्थान को भरने के लिए सबसे उपयुक्त शब्द का चयन करें।

अंग का _____ है हिस्सा।

- Ans 1. विलोम
 2. अर्थ
 3. लिंग
 4. वचन

Question ID : 9895803525
 Chosen Option : 1

Q.1
 7 रिक्त स्थान को भरने के लिए सबसे उपयुक्त शब्द का चयन करें।

_____ लड़का बहुत चालाक है।

- Ans 1. हम
 2. आप
 3. उस
 4. वह

Question ID : 9895803524
 Chosen Option : 4

Q.1
 8 दिए गए शब्द का विलोम चुनें।

स्तुति

- Ans 1. याद
 2. प्रशंसा
 3. निंदा
 4. अपकार

Question ID : 9895803535
 Chosen Option : 3

Q.1
 9 निम्नलिखित में से उस विकल्प का चयन करें जो ' उल्लू बनाना ' मुहावरे का अर्थ व्यक्त करता है।

- Ans 1. बड़ाई करना
 2. रात को जगाना
 3. उल्लू की तरह जागना

✓ 4. मूर्ख बनाना

Question ID : 9895803538
Chosen Option : 4

Q.2
0 रिक्त स्थान को भरने के लिए सबसे उपयुक्त शब्द का चयन करें।

ज्योति ने एक _____ गीत सुनाया।

- Ans
- 1. खड़ा
 - 2. मधुर
 - 3. ठंडा
 - 4. नमकीन

Question ID : 9895803527
Chosen Option : 2

Comprehension:

दिए गए अनुच्छेद में कुछ शब्द हटा दिए गए हैं। दिए गए विकल्पों की सहायता से रिक्त स्थान भरें। प्रत्येक संख्या के लिए सबसे उपयुक्त विकल्प का चयन करें।

संसार में संपूर्ण अज्ञान नाम की वस्तु नहीं होती। अज्ञान अक्सर परिस्थितियों के _____ (1) बदलता रहता है। इसकी कोई एक सर्वमान्य _____ (2) नहीं हो सकती पर इतना तो तय है कि जिस समय यह व्यक्ति के _____ (3) पर हावी होता है, उस समय उसे यही लगता है कि वह _____ (4) का सबसे बड़ा ज्ञानी है और उसके पास हर एक वस्तु की मान्यता का _____ (5) है।

SubQuestion No : 21

Q.2
1 गद्यांश में संकेतित रिक्त स्थान (1) के लिए उपयुक्त शब्द होगा

- Ans
- 1. गुना
 - 2. अज्ञान
 - 3. गणित
 - 4. अनुसार

Question ID : 9895803529
Chosen Option : 3

Comprehension:

दिए गए अनुच्छेद में कुछ शब्द हटा दिए गए हैं। दिए गए विकल्पों की सहायता से रिक्त स्थान भरें। प्रत्येक संख्या के लिए सबसे उपयुक्त विकल्प का चयन करें।

संसार में संपूर्ण अज्ञान नाम की वस्तु नहीं होती। अज्ञान अक्सर परिस्थितियों के _____ (1) बदलता रहता है। इसकी कोई एक सर्वमान्य _____ (2) नहीं हो सकती पर इतना तो तय है कि जिस समय यह व्यक्ति के _____ (3) पर हावी होता है, उस समय उसे यही लगता है कि वह _____ (4) का सबसे बड़ा जानी है और उसके पास हर एक वस्तु की मान्यता का _____ (5) है।

SubQuestion No : 22

Q.2
2 गद्यांश में संकेतित रिक्त स्थान (2) के लिए उपयुक्त शब्द होगा

- Ans
- 1. जिंदगी
 - 2. ऊँचाई
 - 3. परिभाषा
 - 4. छाँव

Question ID : 9895803530
Chosen Option : 2

Comprehension:

दिए गए अनुच्छेद में कुछ शब्द हटा दिए गए हैं। दिए गए विकल्पों की सहायता से रिक्त स्थान भरें। प्रत्येक संख्या के लिए सबसे उपयुक्त विकल्प का चयन करें।

संसार में संपूर्ण अज्ञान नाम की वस्तु नहीं होती। अज्ञान अक्सर परिस्थितियों के _____ (1) बदलता रहता है। इसकी कोई एक सर्वमान्य _____ (2) नहीं हो सकती पर इतना तो तय है कि जिस समय यह व्यक्ति के _____ (3) पर हावी होता है, उस समय उसे यही लगता है कि वह _____ (4) का सबसे बड़ा जानी है और उसके पास हर एक वस्तु की मान्यता का _____ (5) है।

SubQuestion No : 23

Q.2
3 गद्यांश में संकेतित रिक्त स्थान (3) के लिए उपयुक्त शब्द होगा

- Ans
- 1. बादल
 - 2. दिमाग
 - 3. नाक
 - 4. निर्णय

Question ID : 9895803531
Chosen Option : 1

Comprehension:

दिए गए अनुच्छेद में कुछ शब्द हटा दिए गए हैं। दिए गए विकल्पों की सहायता से रिक्त स्थान भरें। प्रत्येक संख्या के लिए सबसे उपयुक्त विकल्प का चयन करें।

संसार में संपूर्ण अज्ञान नाम की वस्तु नहीं होती। अज्ञान अक्सर परिस्थितियों के _____ (1) बदलता रहता है। इसकी कोई एक सर्वमान्य _____ (2) नहीं हो सकती पर इतना तो तय है कि जिस समय यह व्यक्ति के _____ (3) पर हावी होता है, उस समय उसे यही लगता है कि वह _____ (4) का सबसे बड़ा जानी है और उसके पास हर एक वस्तु की मान्यता का _____ (5) है।

SubQuestion No : 24

Q.2
4 गद्यांश में संकेतित रिक्त स्थान (4) के लिए उपयुक्त शब्द होगा

- Ans
- 1. संसार
 - 2. पहाड़
 - 3. निर्णय
 - 4. कल

Question ID : 9895803532
Chosen Option : --

Comprehension:

दिए गए अनुच्छेद में कुछ शब्द हटा दिए गए हैं। दिए गए विकल्पों की सहायता से रिक्त स्थान भरें। प्रत्येक संख्या के लिए सबसे उपयुक्त विकल्प का चयन करें।

संसार में संपूर्ण अज्ञान नाम की वस्तु नहीं होती। अज्ञान अक्सर परिस्थितियों के _____ (1) बदलता रहता है। इसकी कोई एक सर्वमान्य _____ (2) नहीं हो सकती पर इतना तो तय है कि जिस समय यह व्यक्ति के _____ (3) पर हावी होता है, उस समय उसे यही लगता है कि वह _____ (4) का सबसे बड़ा जानी है और उसके पास हर एक वस्तु की मान्यता का _____ (5) है।

SubQuestion No : 25

Q.2
5 गद्यांश में संकेतित रिक्त स्थान (5) के लिए उपयुक्त शब्द होगा

- Ans
- 1. तर्क
 - 2. शर्त
 - 3. जल
 - 4. बदलाव

Question ID : 9895803533
Chosen Option : --

Constable (GD) in CAPFs, NIA, SSF and Rifleman (GD) in Assam Rifles Examination, 2018

Roll No. :	
Registration No.	
Name :	
Exam Venue :	
Exam Time :	4:00 PM - 5:30 PM
Exam Date :	12/02/2019

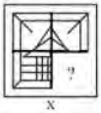
Section : General Section

Q.1 एक निश्चित कूट भाषा में, SPADE को 45 के रूप में लिखा जाता है। इसी कूट भाषा में ABODE को कैसे लिखा जाएगा?

- Ans
- 1. 59
 - 2. 29
 - 3. 27
 - 4. 39

Question ID : 9895804699
Chosen Option : 3

Q.2 दिए गए चार विकल्पों में से उस आकृति को चुनें, जिसे आकृति X के रिक्त स्थान में (बिना घुमाए) रखने पर पैटर्न पूरा हो जाएगा।



- Ans
- 1.
 - 2.
 - 3.
 - 4.

Question ID : 9895804712
Chosen Option : 1

Q.3 उस विकल्प का चयन करें जो तीसरे पद से उसी प्रकार से संबंधित है जिस प्रकार से दूसरा पद पहले पद से संबंधित है।

म्यांमार : क्यात :: पाकिस्तान : ?

- Ans
- 1. दीनार
 - 2. दिरहम

✓ 3. रुपया

✗ 4. रियाल

Question ID : 9895804695
Chosen Option : 3

Q.4 उस विकल्प का चयन करें जो सही रूप में रिक्त स्थान को भरे और श्रृंखला को पूरा करें।

NIX, LKV, JMT, HOR, ____

Ans ✗ 1. FQO

✓ 2. FQP

✗ 3. FOP

✗ 4. FQQ

Question ID : 9895804692
Chosen Option : 3

Q.5 उस विकल्प का चयन करें जो सही रूप में रिक्त स्थान को भरे और श्रृंखला को पूरा करें।

8, 9, 17, 44, ?

Ans ✗ 1. 105

✓ 2. 108

✗ 3. 103

✗ 4. 100

Question ID : 9895804706
Chosen Option : 2

Q.6 निम्नलिखित में से कौन सा वेन रेखाचित्र दिए गए वर्ग के बीच के संबंध को सही दर्शाता है?

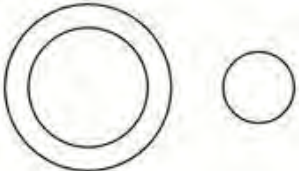
नेपाल, एशिया, काठमांडू

Ans

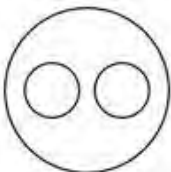
✓ 1.



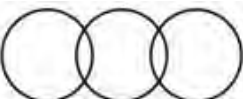
✗ 2.



✗ 3.



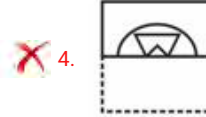
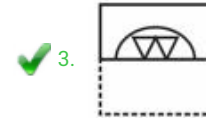
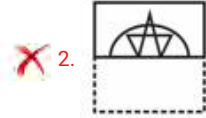
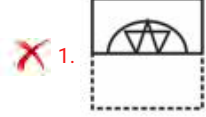
✗ 4.



Q.7 पैटर्न के साथ एक वर्गाकार पारदर्शी कागज पत्रक दिया गया है। पारदर्शी कागज पत्रक को बिंदुंकित रेखा पर मोड़े जाने पर पैटर्न कैसा दिखाई देगा?



Ans



Q.8 उस विकल्प का चयन करें जो सही रूप में रिक्त स्थान को भरे और श्रृंखला को पूरा करें।

3, 16, 29, 42, ?

Ans

1. 61

2. 57

3. 55

4. 54

Q.9 आठ दोस्त A, B, C, D, E, F, H और G दोपहर के भोजन के लिए एक गोल मेज़ के चारों ओर एक दूसरे की तरफ मुंह करके बैठे हैं। A, F के सामने है और B के दाएँ तीसरे स्थान पर है। G, F और D के बीच में है। H, D के बाएँ ओर है। E, C और A के बीच में है। C के दाएँ तीसरे स्थान पर कौन बैठा है?

Ans

1. D

2. A

3. H

4. G

Q.1 दिए गए विकल्पों में से असंगत का चयन करें।

Ans

1. शतुरमुर्ग

2. कौवा
 3. गरुड़
 4. उल्लू

Question ID : 9895804694
Chosen Option : 1

Q.1 सात दोस्त O, P, Q, R, S, T और U एक पंक्ति में बैठकर फिल्म देख रहे हैं। S किसी छोर पर बैठा है। Q, S के दाएं दूसरे स्थान पर बैठा है। P, O और Q के बीच बैठा है। U किसी भी छोर पर नहीं बैठा है। R, T के बाएँ ओर बैठा है। बिल्कुल बाएँ छोर पर कौन बैठा है?

- Ans 1. S
 2. P
 3. Q
 4. R

Question ID : 9895804700
Chosen Option : 1

Q.1
2 दिए गए विकल्पों में से असंगत संख्या का चयन करें।

- Ans 1. 415
 2. 718
 3. 545
 4. 314

Question ID : 9895804708
Chosen Option : 1

Q.1
3 दिए गए विकल्पों में से असंगत का चयन करें।

- Ans 1. LHE
 2. BFQ
 3. DEP
 4. JPC

Question ID : 9895804693
Chosen Option : 4

Q.1
4 निम्नलिखित समीकरण को सही करने के लिए विकल्पों में दिए गए किन दो चिहनों को परस्पर बदला जाना चाहिए?

$$22 + 11 \times 22 - 2 + 3 = 45$$

- Ans 1. - और \times
 2. \times और \div
 3. - और \div
 4. + और \div

Question ID : 9895804710
Chosen Option : 4

Q.1
5

उस विकल्प का चयन करें जो दिए गए पैटर्न में प्रश्न चिह्न (?) के स्थान पर आएगा।

5	15	6
7	5	?
32	230	42

- Ans
- 1. 6
 - 2. 11
 - 3. 9
 - 4. 13

Question ID : 9895804709
Chosen Option : 1

Q.1 उस विकल्प का चयन करें जो तीसरे पद से उसी प्रकार से संबंधित है जिस प्रकार से दूसरा पद पहले पद से संबंधित है।

लार्वा : कीट :: मेमना : ?

- Ans
- 1. हिरन
 - 2. बच्चा
 - 3. शेर
 - 4. भेड़

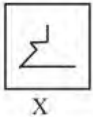
Question ID : 9895804696
Chosen Option : 4

Q.1 एक निश्चित कूट भाषा में, UNHAPPY को PPYAHNU के रूप में लिखा जाता है। इसी कूट भाषा में FALLACY को कैसे लिखा जाएगा?

- Ans
- 1. YCALLAF
 - 2. ACYLLAF
 - 3. ACYLALF
 - 4. ACYLA AF

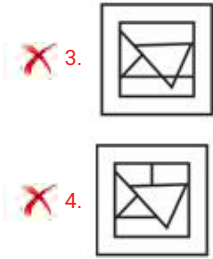
Question ID : 9895804698
Chosen Option : 1

Q.1 विकल्पों में से उस आकृति का चयन करें जिसमें 'X' से चिह्नित आकृति समाहित है।



SEQUEL

- Ans
- 1.
 - 2.



Question ID : 9895804713
Chosen Option : 1

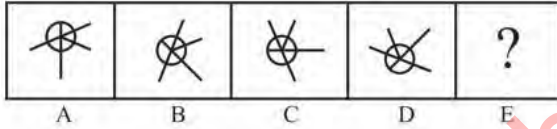
Q.1 उस विकल्प का चयन करें जो तीसरी संख्या से उसी प्रकार से संबंधित है जिस प्रकार दूसरी संख्या पहली संख्या से संबंधित है।

22 : 625 :: 13 : ?

- Ans
- 1. 221
 - 2. 144
 - 3. 169
 - 4. 256

Question ID : 9895804707
Chosen Option : 4

Q.2 विकल्पों में से उस आकृति का चयन करें जो दी गई श्रृंखला में अगले स्थान पर आएगी।



- Ans
- 1.
 - 2.
 - 3.
 - 4.

Question ID : 9895804711
Chosen Option : 1

Q.2 उस विकल्प का चयन करें जो दर्पण के दायाँ ओर रखे जाने पर दिए गए शब्द की दर्पण छवि से सर्वाधिक मेल खाता है।

SEQUEL

- Ans
- 1. SEUQEL

2. SEQUEL

3. SEQUEL

4. SEQUEL

Question ID : 9895804714
Chosen Option : 4

Q.2 उस विकल्प का चयन करें जो तीसरे पद से उसी प्रकार से संबंधित है जिस प्रकार से दूसरा पद पहले पद से संबंधित है।

ACG : DFD :: CIU: ?

Ans 1. EGF

2. LFR

3. FLR

4. RLL

Question ID : 9895804697
Chosen Option : 3

Q.2 नीचे दिए गए कथनों के बाद दो निष्कर्ष I और II दिए गए हैं। यह मानते हुए कि कथनों में दी गई जानकारी सत्य है, भले ही वह सर्वज्ञात तथ्यों से भिन्न प्रतीत होती हो और यह निर्णय करें कि कौन सा / से निष्कर्ष तार्किक और निश्चित रूप से कथन में दी गई जानकारी का अनुसरण करता है / करते हैं।

कथन:

- कुछ बंदूकें मकड़ियाँ हैं।
- कुछ मकड़ियाँ किसान हैं।

निष्कर्ष

- कुछ बंदूकें किसान हैं।
- कुछ किसान बंदूकें हैं।

Ans 1. केवल निष्कर्ष I अनुसरण करता है।

2. दोनों निष्कर्ष अनुसरण करते हैं।

3. न तो निष्कर्ष I और न ही निष्कर्ष II अनुसरण करता है।

4. केवल निष्कर्ष II अनुसरण करता है।

Question ID : 9895804704
Chosen Option : 3

Q.2
4

नीचे दिए गए कथनों के बाद दो निष्कर्ष I और II दिए गए हैं। यह मानते हुए कि कथनों में दी गई जानकारी सत्य है, भले ही वह सर्वज्ञात तथ्यों से भिन्न प्रतीत होती हो और यह निर्णय करें कि कौन सा / से निष्कर्ष तार्किक और निश्चित रूप से कथन में दी गई जानकारी का अनुसरण करता है / करते हैं।

कथन:

- 1.) सभी बच्चे कौवे हैं।
- 2.) सभी बिल्लियाँ कौवे हैं।

निष्कर्ष

- I. कुछ बिल्लियाँ बच्चे हैं।
- II. कोई भी बिल्ली बच्चा नहीं है।

Ans

1. केवल निष्कर्ष II अनुसरण करता है।
2. दोनों निष्कर्ष अनुसरण करते हैं।
3. केवल निष्कर्ष I अनुसरण करता है।
4. या तो निष्कर्ष I या निष्कर्ष II अनुसरण करता है।

Question ID : 9895804703

Chosen Option : 4

Q.2 J, K, L, M, N और O छह शिक्षक हैं। प्रत्येक शिक्षक हिंदी, अंग्रेजी, गणित, विज्ञान, सामाजिक विज्ञान और कला में से एक विषय पढ़ाता है, जरूरी नहीं कि इसी क्रम में पढ़ाता हो। प्रत्येक शिक्षक सोमवार से शनिवार तक केवल एक ही दिन पढ़ाता है, जरूरी नहीं कि इसी क्रम में पढ़ाता हो। J शनिवार को कला पढ़ाता है। L न तो अंग्रेजी पढ़ाता है और न ही सामाजिक विज्ञान पढ़ाता है, लेकिन वह गुरुवार को पढ़ाता है। बुधवार का दिन गणित के लिए आरक्षित है जो K पढ़ाता है। O, N से एक दिन पहले विज्ञान पढ़ाता है। सामाजिक विज्ञान कला पढ़ाए जाने वाले दिन से एक दिन पहले पढ़ाया जाता है। सामाजिक विज्ञान कौन पढ़ाता है?

Ans

1. O
2. J
3. N
4. M

Question ID : 9895804702

Chosen Option : 3

Q.2 _____ मनुष्यों में ऑक्सीजन परिवहन के लिए उत्तरदायी है।

Ans

1. लसीका
2. हीमोग्लोबिन
3. बलगम
4. मेलेनिन

Question ID : 9895802522

Chosen Option : 4

Q.2 _____ ऊष्मा का सबसे अच्छा चालक है।

Ans

1. पारा
2. सीसा
3. स्टेनलेस स्टील
4. चांदी

Question ID : 9895802520
Chosen Option : 2

Q.2
8 केरल में फसल की कटाई पर कौन सा उत्सव मनाया जाता है?

- Ans
- 1. लोहड़ी
 - 2. पोंगल
 - 3. ओणम
 - 4. बैसाखी

Question ID : 9895802515
Chosen Option : 1

Q.2
9 पहले स्तनपायी क्लोन (भेड़) का नाम क्या है?

- Ans
- 1. शान
 - 2. पोली
 - 3. डॉली
 - 4. भेड़

Question ID : 9895802519
Chosen Option : 3

Q.3
0 'इयूस' शब्द _____ के साथ जुड़ा हुआ है।

- Ans
- 1. लॉन टेनिस
 - 2. क्रिकेट
 - 3. बेसबॉल
 - 4. हॉकी

Question ID : 9895802502
Chosen Option : 4

Q.3
1 _____ नदी एकमात्र प्राकृतिक जलस्रोत है, जो रेगिस्तान में एक झील के अंदर बहती है।

- Ans
- 1. लूनी
 - 2. काली
 - 3. गंगा
 - 4. तीस्ता

Question ID : 9895802504
Chosen Option : 1

Q.3
2 उत्तरी भारतीय मैदानों की दलदली पट्टी को _____ के नाम से जाना जाता है।

- Ans
- 1. दोआब
 - 2. तराई

3. भांगड़ा

4. खादर

Question ID : 9895802505
Chosen Option : 2

Q.3
3 PMGY का पूर्ण रूप क्या है?

Ans 1. प्रधान मंत्री ग्राम योजना

2. प्रधान मंत्री ग्रामोदय योजना

3. प्रधान मंत्री गुरुकुल योजना

4. प्रधान मंत्री गरीब योजना

Question ID : 9895802508
Chosen Option : 4

Q.3
4 कौन सा देश दुनिया का सबसे बड़ा लोकतंत्र है?

Ans 1. आइसलैंड

2. स्वीडन

3. भारत

4. नॉर्वे

Question ID : 9895802510
Chosen Option : 3

Q.3
5 निम्न में से कौन-सी शास्त्रीय नृत्य की एक शैली नहीं है?

Ans 1. कथक

2. कथकली

3. कालबेलिया

4. ओडिसी

Question ID : 9895802514
Chosen Option : 1

Q.3
6 मस्तिष्क _____ तंत्र का एक हिस्सा है।

Ans 1. तंत्रिका

2. पाचक

3. परिसंचरण

4. अंतःसावी

Question ID : 9895802521
Chosen Option : 2

Q.3
7 युद्ध के दौरान वीरता के विशिष्ट कार्य प्रदर्शित करने के लिए दिया जाने वाला सर्वोच्च सैन्य सम्मान कौन सा है?

Ans 1. महावीर चक्र

✓ 2. परम वीर चक्र

✗ 3. शौर्य चक्र

✗ 4. सेना मेडल

Question ID : 9895802516
Chosen Option : 2

Q.3
8 निम्नलिखित विकल्पों में से कौन सी भारत में हिमालय की सबसे ऊंची पर्वत चोटी है?

Ans ✓ 1. कंचनजंगा

✗ 2. नमचा बरवा

✗ 3. माउंट एवरेस्ट

✗ 4. नंदा देवी

Question ID : 9895802506
Chosen Option : 3

Q.3
9 भारतीय कवि, गीतकार और फिल्म निर्देशक संपूर्ण सिंह कालरा का उपनाम क्या है?

Ans ✓ 1. गुलज़ार

✗ 2. तालिब

✗ 3. दाग़

✗ 4. आरजू

Question ID : 9895802518
Chosen Option : 2

Q.4
0 भारत में, लोगों की _____ वाले राज्यों को अधिक प्रतिनिधि मिलते हैं।

Ans ✗ 1. कम आबादी

✓ 2. अधिक आबादी

✗ 3. अधिक आय

✗ 4. कम आय

Question ID : 9895802512
Chosen Option : 1

Q.4
1 हिमालय की ऊंची-ऊंची पर्वतमालाओं में घास के विशाल मैदान क्या कहलाते हैं?

Ans ✗ 1. हरे घास के मैदान

✗ 2. मारू

✗ 3. भाबर

✓ 4. बग्ग्याल

Question ID : 9895802501
Chosen Option : 1

Q.4
2 स्वतंत्रता के बाद, भारत के पहले उप प्रधान मंत्री कौन हुए?

Ans

✓ 1. सरदार वल्लभभाई पटेल

✗ 2. मोरारजी देसाई

✗ 3. जगजीवन राम

✗ 4. चरण सिंह

Question ID : 9895802500
Chosen Option : 1

Q.4
3 निम्नलिखित में से कौन से व्यापार अवरोध नहीं हैं?

Ans ✗ 1. प्रशुल्क अवरोध

✗ 2. निषेध / प्रतिरोध

✓ 3. निर्यात सुरक्षा

✗ 4. उपदान (सब्सिडी)

Question ID : 9895802509
Chosen Option : 3

Q.4
4 भारतीय जनता पार्टी (बीजेपी) की उत्पत्ति _____ द्वारा स्थापित भारतीय जन संघ में निहित है।

Ans ✓ 1. श्यामा प्रसाद मुखर्जी

✗ 2. अटल बिहारी वाजपेयी

✗ 3. लाल कृष्ण आडवाणी

✗ 4. मुरली मनोहर जोशी

Question ID : 9895802511
Chosen Option : 4

Q.4
5 1793 में जमींदारी प्रणाली किसके द्वारा शुरू की गई थी?

Ans ✗ 1. कर्जन

✓ 2. कार्नवालिस

✗ 3. क्लाइव

✗ 4. क्लिंट

Question ID : 9895802499
Chosen Option : 1

Q.4
6 हरित क्रांति में किसे शामिल नहीं किया गया है?

Ans ✓ 1. गांव की सड़कों के सुधार को

✗ 2. बीजों की अधिक उपज देने वाली किस्मों को

✗ 3. सिंचाई की अच्छी तरह से विकसित प्रणाली के उपयोग को

✗ 4. खेती में उन्नत तकनीक के उपयोग को

Question ID : 9895802507
Chosen Option : 1

Q.4
7 साइखोम मीराबाई चानू को 2018 में _____ के लिए पद्म श्री से सम्मानित किया गया।

- Ans
- 1. एथलेटिक्स
 - 2. क्रिकेट
 - 3. कुश्ती
 - 4. भारोत्तोलन

Question ID : 9895802503
Chosen Option : 3

Q.4
8 गरबा एक लोक नृत्य है, जिसकी उत्पत्ति _____ में हुई थी।

- Ans
- 1. महाराष्ट्र
 - 2. बिहार
 - 3. राजस्थान
 - 4. गुजरात

Question ID : 9895802513
Chosen Option : 4

Q.4
9 वह एकमात्र पाकिस्तानी नागरिक कौन था, जिसे भारत रत्न से सम्मानित किया गया था?

- Ans
- 1. इमरान खान
 - 2. नवाज़ शरीफ़
 - 3. बेनज़ीर भुट्टो
 - 4. खान अब्दुल गफ्फार खान

Question ID : 9895802517
Chosen Option : 1

Q.5
0 _____ को 'कोशिका का पाँवर हाउस' कहा जाता है।

- Ans
- 1. नाभिक
 - 2. कोशिका झिल्ली
 - 3. माइटोकॉन्ड्रिया
 - 4. गॉल्जी निकाय

Question ID : 9895802523
Chosen Option : 3

Q.5
1 दो संख्याओं का लघुत्तम समापवर्त्य तथा महत्तम समापवर्तक क्रमशः 75 तथा 5 है। यदि उनका अंतर 10 है, तो इन दो संख्याओं का योग क्या होगा?

- Ans
- 1. 25
 - 2. 30
 - 3. 40

✗ 4. 20

Question ID : 9895804309
Chosen Option : 3

Q.5 16 मजदूर प्रतिदिन 8 घंटे कार्य करके एक इमारत को 32 दिन में गिरा सकते हैं। 24 मजदूर प्रतिदिन 12 घंटे कार्य करके कितने दिन में समान इमारत को गिरा सकते हैं?

- Ans
- ✗ 1. 56/3 दिन
 - ✗ 2. 128/3 दिन
 - ✗ 3. 56/9 दिन
 - ✓ 4. 128/9 दिन

Question ID : 9895804324
Chosen Option : 1

Q.5 यदि $s : u : v : w = 2 : 9 : 6 : 7$ है तथा $s + u + v + w = 864$ है, तो $s + u + w$ का मान क्या है?

- Ans
- ✗ 1. 612
 - ✓ 2. 648
 - ✗ 3. 734
 - ✗ 4. 722

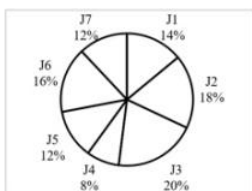
Question ID : 9895804321
Chosen Option : 2

Q.5 एक रेलगाड़ी एक स्थायी गति से चल रही है। रेलगाड़ी 340 मीटर लम्बाई वाले एक पुल को 35 सेकण्ड में तथा 460 मीटर लम्बाई वाले एक पुल को 38 सेकण्ड में पार करती है। रेलगाड़ी की गति क्या है?

- Ans
- ✗ 1. 40 कि.मी./घंटा
 - ✗ 2. 80 कि.मी./घंटा
 - ✗ 3. 72 कि.मी./घंटा
 - ✓ 4. 144 कि.मी./घंटा

Question ID : 9895804326
Chosen Option : 2

Q.5 नीचे दिया गया पाई चार्ट कार बनाने की 7 विभिन्न प्रक्रियाओं J1, J2, J3, J4, J5, J6 तथा J7 में लगने वाले समय को कार बनने में लगने वाले कुल समय के प्रतिशत के रूप में दर्शाता है। एक कार बनने में कुल 1200 घंटे का समय लगता है।




J3, J6 तथा J7 प्रक्रियाओं में लगने वाला औसत समय क्या है?

Ans

- 1. 204 घंटे
- 2. 180 घंटे
- 3. 168 घंटे
- 4. 192 घंटे

Question ID : 9895804332
Chosen Option : 4

Q.5 नीचे दिए गए बार चार्ट में सात क्रमागत वर्षों Y1, Y2, Y3, Y4, Y5, Y6 तथा Y7 के लिए व्यय से राजस्व के अनुपात को दर्शाया गया है।



वर्ष Y4 के लिए राजस्व ₹ 22500 है। वर्ष Y4 के लिए लाभ क्या है?

- Ans
- 1. ₹ 2500
 - 2. निर्धारित नहीं किया जा सकता है
 - 3. ₹ 2250
 - 4. ₹ 2750

Question ID : 9895804331
Chosen Option : 3

Q.5 एक त्रिभुज की भुजाओं का अनुपात 5 : 2 : 1 है। यदि त्रिभुज का परिमाण 88 से.मी. है, तो सबसे बड़ी भुजा की लंबाई क्या होगी?

- Ans
- 1. 38 से.मी.
 - 2. 44 से.मी.
 - 3. 40 से.मी.
 - 4. 55 से.मी.

Question ID : 9895804328
Chosen Option : 1

Q.5 दीपक तथा विनोद की गति क्रमशः 19 : 12 के अनुपात में है। यदि विनोद की गति 84 कि.मी./घंटा है, तो दीपक की गति क्या होगी?

- Ans
- 1. 117 कि.मी./घंटा
 - 2. 114 कि.मी./घंटा
 - 3. 133 कि.मी./घंटा
 - 4. 126 कि.मी./घंटा

Question ID : 9895804320
Chosen Option : 3

Q.5 एक वस्तु को 12.5% की छूट देने के पश्चात् ₹ 5845 में बेचा गया है। वस्तु का अंकित मूल्य क्या है?

Ans

1. ₹ 6680
 2. ₹ 6600
 3. ₹ 6700
 4. ₹ 6800

Question ID : 9895804314
Chosen Option : 1

Q.6 ₹ 12500 की एक राशि साधारण ब्याज दर से 7 वर्षों में ₹ 5625 का ब्याज देती है। यदि वार्षिक ब्याज दर 7.5% है, तो 7 का मान क्या होगा?

- Ans 1. 5 वर्ष
 2. 7 वर्ष
 3. 6 वर्ष
 4. 8 वर्ष

Question ID : 9895804322
Chosen Option : 3

Q.6 यदि X, Y से 30% कम है तथा Z, X से 50% कम है, तो Z, Y से कितना प्रतिशत कम है?

- Ans 1. 80%
 2. 65%
 3. 75%
 4. 95%

Question ID : 9895804316
Chosen Option : 1

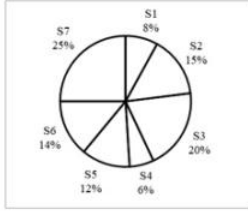
Q.6 यदि धीरज एक 100 मीटर चौड़ी सड़क को 25 सेकण्ड में पार कर सकता है, तो धीरज की गति क्या है?

- Ans 1. 12 मी./से.
 2. 4 मी./से.
 3. 6 मी./से.
 4. 14 मी./से.

Question ID : 9895804327
Chosen Option : 2

Q.6
3

नीचे दिया गया पाई चार्ट एक देश के 7 राज्यों द्वारा प्राप्त वार्षिक बर्फबारी को दर्शाता है। बर्फबारी को देश की कुल वार्षिक बर्फबारी के प्रतिशत के रूप में दर्शाया गया है।



यदि देश द्वारा प्राप्त वार्षिक बर्फबारी 700 से.मी. है, तो S5 द्वारा प्राप्त मासिक बर्फबारी क्या है?

- Ans
- 1. 21 से.मी.
 - 2. 7 से.मी.
 - 3. 5 से.मी.
 - 4. 12 से.मी.

Question ID : 9895804333
Chosen Option : 3

Q.6 $\left[\frac{4}{5} \div \frac{5}{8} - \frac{7}{5} + \frac{2}{15} \right]$ का $\left(\frac{3}{2} \div \frac{4}{5} \right)$ का मान क्या है?

- Ans
- 1. 13/100
 - 2. 17/80
 - 3. 15/29
 - 4. 21/100

Question ID : 9895804311
Chosen Option : 2

Q.6 $\frac{N1}{5}$ और $\frac{N2}{5}$ संख्या का औसत 17 है। $\frac{N2}{5}$ तथा $\frac{N3}{5}$ का औसत 44 है। $\frac{N3}{5}$ तथा $\frac{N1}{5}$ का अंतर क्या है?

- Ans
- 1. 27
 - 2. 36
 - 3. 54
 - 4. 35

Question ID : 9895804312
Chosen Option : 3

Q.6 यदि $2A = 3B = 7C$ है, तो $A : B : C$ का अनुपात क्या है?

- Ans
- 1. 21 : 14 : 6
 - 2. 21 : 10 : 6
 - 3. 2 : 3 : 7
 - 4. 14 : 10 : 21

Question ID : 9895804319
Chosen Option : 1

Q.6 यदि रोहित अकेला एक कार्य का एक-चौथाई 32 दिन में पूरा कर सकता है, तो रोहित संपूर्ण कार्य को कितने दिन में पूरा कर सकता है?

- Ans
- 1. 64 दिन
 - 2. 128 दिन
 - 3. 118 दिन
 - 4. 96 दिन

Question ID : 9895804325
Chosen Option : 2

Q.6 एक राशि चक्रवृद्धि ब्याज की दर से 7 वर्षों में स्वयं का 8 गुना हो जाती है (ब्याज का संयोजन वार्षिक किया गया है)। कितने वर्षों में राशि स्वयं का 4096 गुना हो जाएगी?

- Ans
- 1. 28
 - 2. 56
 - 3. 16
 - 4. 24

Question ID : 9895804323
Chosen Option : 1

Q.6 सप्ताह के पहले 2 दिनों के लिए शहर A की औसत वर्षा 105 है, अगले 3 दिनों के लिए 84 है तथा सप्ताह के अंतिम 2 दिनों के लिए 49 है। शहर B के लिए कुल साप्ताहिक वर्षा 455 है। दोनों शहर को मिलाकर औसत दैनिक वर्षा क्या होगी?

- Ans
- 1. 145
 - 2. 152
 - 3. 138
 - 4. 159

Question ID : 9895804313
Chosen Option : 2

Q.7 यदि एक वस्तु का क्रय मूल्य ₹ 1240 है तथा हानि 32% है, तो वस्तु का विक्रय मूल्य क्या होगा?

- Ans
- 1. ₹ 759.60
 - 2. ₹ 820.62
 - 3. ₹ 843.20
 - 4. ₹ 780.72

Question ID : 9895804318
Chosen Option : 1

Q.7 एक लंबवृत्तीय शंकु की ऊँचाई 28 से.मी. है। यदि इसके आधार का व्यास 42 से.मी. है, तो शंकु का वक्र पृष्ठीय क्षेत्रफल क्या होगा?

- Ans
- 1. 2310 से.मी.²
 - 2. 1540 से.मी.²
 - 3. 4620 से.मी.²

✗ 4. 170 से.मी.²

Question ID : 9895804329
Chosen Option : 2

Q.7
2 यदि 80 वस्तुओं का क्रय मूल्य 50 वस्तुओं के विक्रय मूल्य के बराबर है, तो लाभ प्रतिशत क्या होगा?

- Ans
- ✗ 1. 25%
 - ✗ 2. 37.5%
 - ✓ 3. 60%
 - ✗ 4. 40%

Question ID : 9895804317
Chosen Option : 2

Q.7
3 एक लंबवृत्तीय शंकु का आयतन उस लंबवृत्तीय बेलन के बराबर है जिसकी ऊँचाई 48 से.मी. है तथा उसके आधार का व्यास 20 से.मी. है। यदि शंकु की ऊँचाई 16 से.मी. है, तो उसके आधार का व्यास क्या होगा?

- Ans
- ✗ 1. 45 से.मी.
 - ✗ 2. 25 से.मी.
 - ✗ 3. 130 से.मी.
 - ✓ 4. 60 से.मी.

Question ID : 9895804330
Chosen Option : 1

Q.7
4 $(5 \div \frac{1}{5} \text{ का } \frac{25}{4} + \frac{20}{3} \div \frac{100}{9})$ का मान क्या है?

- Ans
- ✗ 1. 18/5
 - ✗ 2. 31/5
 - ✓ 3. 23/5
 - ✗ 4. 27/5

Question ID : 9895804310
Chosen Option : 1

Q.7
5 नीचे दिए गए आंकड़े अलग-अलग अंक प्राप्त करने वाले कक्षा A के छात्रों की संख्या दर्शाते हैं।

अंक	कक्षा A के छात्र
0-2	3
2-4	4
4-6	1
6-8	1
8-10	1
10-12	0

कक्षा A का माध्य अंक क्या है?

- Ans 1. 2
 2. 1.6
 3. 3.8
 4. 2.8

Question ID : 9895804315
Chosen Option : 2

Section : English Language

Q.1 Identify the segment in the sentence which contains the grammatical error from the given options.

He was deprived from the benefits of college education owing to the death of his father.

- Ans 1. He was deprived from
 2. the benefits of
 3. college education
 4. owing to

Question ID : 9895804194
Chosen Option : --

Q.2 Select the most appropriate meaning of the given idiom.

Storm in a teacup

- Ans 1. A big fuss over a small issue
 2. A stormy tea party
 3. A highly risky business
 4. A grand get-together

Question ID : 9895804186
Chosen Option : --

Q.3 Identify the segment in the sentence which contains the grammatical error from the given options.

When he returned to the dining-room the guests left and the servants were clearing the tables.

- Ans 1. to the dining-room
 2. the guests left
 3. were clearing
 4. When he

Question ID : 9895804195
Chosen Option : --

Comprehension:

In the following passage some words have been deleted. Fill in the blanks with the help of the alternatives given.
Science has made an (1) _____ contribution to the relief of human suffering, and humanity (2) _____ a deep (3) _____ of gratitude to scientists whose (4) _____ and sacrifices have led to many (5) _____ discoveries and inventions.

SubQuestion No : 4

Q.4 Fill in the blank (1) with the most appropriate option.

- Ans 1. excessive

2. enterprising

3. intensive

4. enormous

Question ID : 9895804203

Chosen Option : --

Comprehension:

In the following passage some words have been deleted. Fill in the blanks with the help of the alternatives given.
Science has made an (1) _____ contribution to the relief of human suffering, and humanity (2) _____ a deep (3) _____ of gratitude to scientists whose (4) _____ and sacrifices have led to many (5) _____ discoveries and inventions.

SubQuestion No : 5

Q.5 Fill in the blank (2) with the most appropriate option.

Ans 1. offers

2. thinks

3. feels

4. owes

Question ID : 9895804204

Chosen Option : --

Comprehension:

In the following passage some words have been deleted. Fill in the blanks with the help of the alternatives given.
Science has made an (1) _____ contribution to the relief of human suffering, and humanity (2) _____ a deep (3) _____ of gratitude to scientists whose (4) _____ and sacrifices have led to many (5) _____ discoveries and inventions.

SubQuestion No : 6

Q.6 Fill in the blank (3) with the most appropriate option.

Ans 1. feeling

2. fund

3. amount

4. sense

Question ID : 9895804205

Chosen Option : --

Comprehension:

In the following passage some words have been deleted. Fill in the blanks with the help of the alternatives given.
Science has made an (1) _____ contribution to the relief of human suffering, and humanity (2) _____ a deep (3) _____ of gratitude to scientists whose (4) _____ and sacrifices have led to many (5) _____ discoveries and inventions.

SubQuestion No : 7

Q.7 Fill in the blank (4) with the most appropriate option.

Ans 1. discoveries

2. labour

3. achievements

4. success

Question ID : 9895804206

Chosen Option : --

Comprehension:

In the following passage some words have been deleted. Fill in the blanks with the help of the alternatives given. Science has made an (1) _____ contribution to the relief of human suffering, and humanity (2) _____ a deep (3) _____ of gratitude to scientists whose (4) _____ and sacrifices have led to many (5) _____ discoveries and inventions.

SubQuestion No : 8

Q.8 Fill in the blank (5) with the most appropriate option.

- Ans
- 1. unusual
 - 2. curious
 - 3. dynamic
 - 4. useful

Question ID : 9895804207
Chosen Option : --

Q.9 Select the most appropriate option to substitute the underlined segment in the given sentence. If there is no need to substitute it, select No Improvement.

Subhash Palekar a farmer received the Padma Shri award this year in his campaign for zero budget natural farming.

- Ans
- 1. for his campaign to zero budget
 - 2. at his campaign with zero budget
 - 3. No Improvement
 - 4. for his campaign for zero budget

Question ID : 9895804199
Chosen Option : --

Q.1 Select the most appropriate option to substitute the underlined segment in the given sentence. If there is no need to substitute it, select No Improvement.

He spent all which he has in order to perfect his invention.

- Ans
- 1. which he has
 - 2. No Improvement
 - 3. what he is having
 - 4. that he had

Question ID : 9895804198
Chosen Option : --

Q.1 Select the most appropriate meaning of the idiom.

To burn all bridges

- Ans
- 1. To chase all enemies
 - 2. To light a fire
 - 3. To destroy all relations
 - 4. To damage a path

Question ID : 9895804187
Chosen Option : --

Q.1 Identify the segment in the sentence which contains the grammatical error from the given options.

2

This bottle must not be make to stand close to the fire.

- Ans
- 1. close to the fire

- 2. This bottle
- 3. make to stand
- 4. must not be

Question ID : 9895804196
Chosen Option : --

Q.1
3 Select the most appropriate ANTONYM of the given word.

SEMBLANCE

- Ans
- 1. Simile
 - 2. Guise
 - 3. A likeness
 - 4. Difference

Question ID : 9895804184
Chosen Option : --

Q.1
4 Fill in the blank with the most appropriate word.

Miserly people find it difficult to part _____ any of their money for charitable purposes.

- Ans
- 1. for
 - 2. about
 - 3. with
 - 4. from

Question ID : 9895804200
Chosen Option : --

Q.1
5 Select the correctly spelt word.

- Ans
- 1. Leisure
 - 2. Lisure
 - 3. Liesure
 - 4. Leisour

Question ID : 9895804188
Chosen Option : --

Q.1
6 Select the word which means the same as the group of words given.

Something never done or known before

- Ans
- 1. Unprecedented
 - 2. Unanimous
 - 3. Uncanny
 - 4. Unconditioned

Question ID : 9895804191
Chosen Option : --

Q.1
7

Select the most appropriate option to substitute the underlined segment in the given sentence. If there is no need to substitute it, select No Improvement

The Finance Minister has announce big schemes for farmers, women and unorganized workers in his Budget speech.

- Ans
- 1. has announced
 - 2. have announced
 - 3. has been announcing
 - 4. No Improvement

Question ID : 9895804197
Chosen Option : --

Q.1
8 Select the synonym of the given word.

IMITATION

- Ans
- 1. Artificial
 - 2. Real
 - 3. Genuine
 - 4. Different

Question ID : 9895804182
Chosen Option : --

Q.1
9 Fill in the blank with the most appropriate word.

Reason is the highest faculty _____ on man by his creator.

- Ans
- 1. bestowed
 - 2. given
 - 3. endowed
 - 4. donated

Question ID : 9895804192
Chosen Option : --

Q.2
0 Select the most appropriate ANTONYM of the given word.

RAMBLING

- Ans
- 1. Confused
 - 2. Deceptive
 - 3. Irregular
 - 4. Coherent

Question ID : 9895804185
Chosen Option : --

Q.2
1 Select the word which means the same as the group of words given.

The life history of a person written by himself

- Ans
- 1. Autobiography
 - 2. Biography

- 3. Fiction
- 4. Novel

Question ID : 9895804190
Chosen Option : --

Q.2
2 Select the synonym of the given word.

FAÇADE

- Ans
- 1. Ceiling
 - 2. Frontage
 - 3. Elevation
 - 4. Interior

Question ID : 9895804183
Chosen Option : --

Q.2
3 Select the most appropriate word to fill in the blank.

I would rather serve _____.

- Ans
- 1. but beg
 - 2. but to beg
 - 3. than to beg
 - 4. than beg

Question ID : 9895804201
Chosen Option : --

Q.2
4 Select the correctly spe

- Ans
- 1. Discripancy
 - 2. Descrepancy
 - 3. Discrepancy
 - 4. Discrepency

Question ID : 9895804189
Chosen Option : --

Q.2
5 Select the most appropriate word to fill in the blank.

A house to house survey was _____ conducted to register more than seventeen crore voters.

- Ans
- 1. meticulously
 - 2. wearily
 - 3. firmly
 - 4. punctually

Question ID : 9895804193
Chosen Option : --

Q.1 सही वर्तनी वाले शब्द का चयन करें।

- Ans
- 1. पारकृतिक
 - 2. प्राकृतिक
 - 3. प्राकृत्रिक
 - 4. प्रकृतिक

Question ID : 9895803595
Chosen Option : 2

Q.2 दिए गए शब्द का विलोम चुनें।
क्रय

- Ans
- 1. निर्यात
 - 2. बंधन
 - 3. अहित
 - 4. विक्रय

Question ID : 9895803587
Chosen Option : 4

Q.3 दिए गए शब्द के पर्यायवाची शब्द का चयन करें।

- कुंतल
- Ans
- 1. बाघ
 - 2. बालू
 - 3. केश
 - 4. बाण

Question ID : 9895803589
Chosen Option : 3

Comprehension:

दिए गए अनुच्छेद में कुछ शब्द हटा दिए गए हैं। दिए गए विकल्पों की सहायता से रिक्त स्थान भरें। प्रत्येक संख्या के लिए सबसे उपयुक्त विकल्प का चयन करें।

समझने वाली एक महत्त्वपूर्ण बात यह भी है कि सारी _____(1) हमारे अकेले की नहीं होती। सारे _____(2) हमारे चढ़ने के लिए नहीं होते। कुछ चढ़ाइयाँ ऐसी भी होती हैं जो पूरे _____(3) को एक साथ चढ़नी होती है और यह बात पूरे समाज को समझाना भी अपने आप में पहाड़ होता है। मगर इस पर _____(4) का दायित्व भी उन _____(5) की होती है जिन्हें यह पहाड़ दिखाई देता है।

SubQuestion No : 4

Q.4

गद्यांश में संकेतित रिक्त स्थान (1) के लिए उपयुक्त शब्द होगा -

- Ans
- 1. जवाब
 - 2. लड़ाइयाँ
 - 3. निर्णय
 - 4. नदियाँ

Question ID : 9895803581
Chosen Option : 3

Comprehension:

दिए गए अनुच्छेद में कुछ शब्द हटा दिए गए हैं। दिए गए विकल्पों की सहायता से रिक्त स्थान भरें। प्रत्येक संख्या के लिए सबसे उपयुक्त विकल्प का चयन करें।

समझने वाली एक महत्वपूर्ण बात यह भी है कि सारी _____(1) हमारे अकेले की नहीं होती। सारे _____(2) हमारे चढ़ने के लिए नहीं होते। कुछ चढ़ाइयाँ ऐसी भी होती हैं जो पूरे _____(3) को एक साथ चढ़नी होती है और यह बात पूरे समाज को समझाना भी अपने आप में पहाड़ होता है। मगर इस पर _____(4) का दायित्व भी उन _____(5) की होती है जिन्हें यह पहाड़ दिखाई देता है।

SubQuestion No : 5

Q.5 गद्यांश में संकेतित रिक्त स्थान (2) के लिए उपयुक्त शब्द होगा -

- Ans
- 1. किताब
 - 2. पहाड़
 - 3. सागर
 - 4. सोच

Question ID : 9895803582
Chosen Option : 2

Comprehension:

दिए गए अनुच्छेद में कुछ शब्द हटा दिए गए हैं। दिए गए विकल्पों की सहायता से रिक्त स्थान भरें। प्रत्येक संख्या के लिए सबसे उपयुक्त विकल्प का चयन करें।

समझने वाली एक महत्वपूर्ण बात यह भी है कि सारी _____(1) हमारे अकेले की नहीं होती। सारे _____(2) हमारे चढ़ने के लिए नहीं होते। कुछ चढ़ाइयाँ ऐसी भी होती हैं जो पूरे _____(3) को एक साथ चढ़नी होती है और यह बात पूरे समाज को समझाना भी अपने आप में पहाड़ होता है। मगर इस पर _____(4) का दायित्व भी उन _____(5) की होती है जिन्हें यह पहाड़ दिखाई देता है।

SubQuestion No : 6

Q.6

गद्यांश में संकेतित रिक्त स्थान (3) के लिए उपयुक्त

शब्द होगा -

Ans

- 1. धूप
- 2. स्थान
- 3. समाज
- 4. चुनाव

Question ID : 9895803583
Chosen Option : 3

Comprehension:

दिए गए अनुच्छेद में कुछ शब्द हटा दिए गए हैं। दिए गए विकल्पों की सहायता से रिक्त स्थान भरें। प्रत्येक संख्या के लिए सबसे उपयुक्त विकल्प का चयन करें।

समझने वाली एक महत्वपूर्ण बात यह भी है कि सारी _____(1) हमारे अकेले की नहीं होती। सारे _____(2) हमारे चढ़ने के लिए नहीं होते। कुछ चढ़ाइयाँ ऐसी भी होती हैं जो पूरे _____(3) को एक साथ चढ़नी होती है और यह बात पूरे समाज को समझाना भी अपने आप में पहाड़ होता है। मगर इस पर _____(4) का दायित्व भी उन _____(5) की होती है जिन्हें यह पहाड़ दिखाई देता है।

SubQuestion No : 7

Q.7

गद्यांश में संकेतित रिक्त स्थान (4) के लिए उपयुक्त

शब्द होगा -

Ans

- 1. सोने
- 2. हँसने
- 3. चढ़ने
- 4. खाने

Question ID : 9895803584
Chosen Option : 3

Comprehension:

दिए गए अनुच्छेद में कुछ शब्द हटा दिए गए हैं। दिए गए विकल्पों की सहायता से रिक्त स्थान भरें। प्रत्येक संख्या के लिए सबसे उपयुक्त विकल्प का चयन करें।

समझने वाली एक महत्वपूर्ण बात यह भी है कि सारी _____(1) हमारे अकेले की नहीं होती। सारे _____(2) हमारे चढ़ने के लिए नहीं होते। कुछ चढ़ाइयाँ ऐसी भी होती हैं जो पूरे _____(3) को एक साथ चढ़नी होती है और यह बात पूरे समाज को समझाना भी अपने आप में पहाड़ होता है। मगर इस पर _____(4) का दायित्व भी उन _____(5) की होती है जिन्हें यह पहाड़ दिखाई देता है।

SubQuestion No : 8

Q.8

गद्यांश में संकेतित रिक्त स्थान (5) के लिए उपयुक्त शब्द होगा -

Ans

- 1. दुखों
- 2. सुखों
- 3. रोने
- 4. व्यक्तियों

Question ID : 9895803585
Chosen Option : 4

Q.9 दिए गए शब्द के पर्यायवाची शब्द का चयन करें।

हिम

Ans

- 1. वायु
- 2. जल
- 3. अग्नि
- 4. बर्फ

Question ID : 9895803588
Chosen Option : 4

Q.10 सही वर्तनी वाले शब्द का चयन करें।

Ans

- 1. आकर्षक
- 2. आक्रषक
- 3. अकार्षक
- 4. आकर्शक

Question ID : 9895803594
Chosen Option : 2

Q.11 दिए गए वाक्य में रेखांकित खंड को प्रतिस्थापित करने के लिए उपयुक्त विकल्प का चयन करें।

बादल फटने से डेढ़ सौ व्यक्तियों का मृत्यु हो गई।

Ans

- 1. डेढ़ सौ व्यक्तियों की मृत्यु हो गई।
- 2. डेढ़ सौ व्यक्तियों से मृत्यु हो गई।
- 3. डेढ़ सौ व्यक्तियों को मृत्यु हो गई।
- 4. डेढ़ सौ व्यक्तियों के मृत्यु हो गई।

Question ID : 9895803575
Chosen Option : 1

Q.12 निम्नलिखित में से उस विकल्प का चयन करें जो 'आटे दाल का भाव मालूम होना' मुहावरे का अर्थ व्यक्त करता है।

Ans

- 1. आटे और दाल का भाव बताना

2. महंगाई का बढ़ना
 3. कठिनाई का ज्ञान होना
 4. परिस्थिति से भागना

Question ID : 9895803591
Chosen Option : 2

Q.1
3 दिए गए वाक्य का वह भाग ज्ञात करें जिसमें कोई त्रुटि है।

सामान्य जनता को जागृत करने के लिए पुस्तकें प्रकाशित किये जा रहे हैं।

- Ans
1. पुस्तकें प्रकाशित
 2. सामान्य जनता को
 3. किये जा रहे हैं।
 4. जागृत करने के लिए

Question ID : 9895803572
Chosen Option : 4

Q.1
4 दिये गये वाक्यांश के लिए एक शब्द दीजिये।

जो भूमि उपजाऊ हो

- Ans
1. उर्वर
 2. बंजर
 3. बेजान
 4. कटौली

Question ID : 9895803593
Chosen Option : 1

Q.1
5 दिए गए शब्द का विलोम चुनें।

शुद्ध

- Ans
1. पवित्र
 2. विरुद्ध
 3. गलत
 4. अशुद्ध

Question ID : 9895803586
Chosen Option : 4

Q.1
6 रिक्त स्थान को भरने के लिए सबसे उपयुक्त शब्द का चयन करें।

तुम्हारा पत्र पढ़कर _____ प्रसन्नता हुई।

Ans

- 1. अत्यंत
- 2. भयानक
- 3. अभिन्न
- 4. उन्नत

Question ID : 9895803578
Chosen Option : 2

Q.1
7 दिए गए वाक्य का वह भाग ज्ञात करें जिसमें कोई त्रुटि है।

अतीत की घटनाओं से ही व्यक्ति सीखना सकता है और प्रगति के पथ पर जा सकता है।

- Ans
- 1. जा सकता है।
 - 2. और प्रगति के पथ पर
 - 3. व्यक्ति सीखना सकता है
 - 4. अतीत की घटनाओं से ही

Question ID : 9895803571
Chosen Option : 3

Q.1
8 रिक्त स्थान को भरने के लिए सबसे उपयुक्त शब्द का चयन करें।

हमें पेड़-पौधों की _____ करनी चाहिए।

- Ans
- 1. देखभाल
 - 2. पिटाई
 - 3. उपेक्षा
 - 4. कटाई

Question ID : 9895803576
Chosen Option : 1

Q.1
9 दिए गए वाक्य में रेखांकित खंड को प्रतिस्थापित करने के लिए उपयुक्त विकल्प का चयन करें।

ऋतु परिवर्तन के कारण मनाए जाने वाले त्योहार हमें प्रकृति से निकट ले जाते हैं।

- Ans
- 1. प्रकृति के निकट ले जाते हैं।
 - 2. प्रकृति की निकट ले जाते हैं।
 - 3. प्रकृति के लिए निकट ले जाते हैं।
 - 4. प्रकृति को निकट ले जाते हैं।

Question ID : 9895803573
Chosen Option : 1

Q.2
0 दिये गये वाक्यांश के लिए एक शब्द दीजिये।

कम खाने वाला

- Ans
- 1. मांसाहारी

2. शाकाहारी

3. अल्पाहारी

4. सर्वाहारी

Question ID : 9895803592

Chosen Option : 3

Q.2
1 निम्नलिखित में से उस विकल्प का चयन करें जो ' आग में घी डालना ' मुहावरे का अर्थ व्यक्त करता है।

Ans 1. आग जलाना

2. आग में घी डालकर हवन करना

3. क्रोध को और भड़काना

4. बहुत अधिक क्रोध करना

Question ID : 9895803590

Chosen Option : 3

Q.2
2 रिक्त स्थान को भरने के लिए सबसे उपयुक्त शब्द का चयन करें।

मैं उसकी _____ को देखकर मुग्ध हो गया।

Ans 1. सुन्दरता

2. बेबसी

3. क्रोध

4. विफलता

Question ID : 9895803577

Chosen Option : 4

Q.2
3 दिए गए वाक्य में रेखांकित खंड को प्रतिस्थापित करने के लिए उपयुक्त विकल्प का चयन करें।

सेठजी मंदिर में गए, उन्होंने यहाँ आकर गरीबों को कंबल बाँटे।

Ans 1. उन्होंने वहाँ जाकर

2. उन्होंने वहाँ आकर

3. उन्होंने यहाँ हटकर

4. उन्होंने यहाँ जाकर

Question ID : 9895803574

Chosen Option : 1

Q.2
4 रिक्त स्थान को भरने के लिए सबसे उपयुक्त शब्द का चयन करें।

गौरव सौरभ की _____ अधिक मोटा है।

Ans 1. उपेक्षा

2. अपेक्षा

3. तुलना

4. ज्यादा

Question ID : 9895803579
Chosen Option : 1

Q.2 दिए गए वाक्य का वह भाग ज्ञात करें जिसमें कोई त्रुटि है।
5

मन की शक्ति जैसे तो प्रकृति की देन है, फिर भी इसकी आंशिक निर्माण माता-पिता पर निर्भर करता है।

Ans

1. फिर भी इसकी आंशिक निर्माण
2. जैसे तो प्रकृति की देन है,
3. मन की शक्ति
4. माता-पिता पर निर्भर करता है।

Question ID : 9895803570
Chosen Option : 1

KD Job Updates

Constable (GD) in CAPFs, NIA, SSF and Rifleman (GD) in Assam Rifles Examination, 2018

Roll No. :	
Registration No.	
Name :	
Exam Venue :	
Exam Time :	12:30 PM - 2:00 PM
Exam Date :	13/02/2019

Section : General Section

Q.1 उस विकल्प का चयन करें जो दी गई तीसरी संख्या से उसी प्रकार से संबंधित है जिस प्रकार दूसरी संख्या पहली संख्या से संबंधित है।

17: 289:: 23: ?

- Ans 1. 529
 2. 625
 3. 169
 4. 144

Question ID : 9895804732
Chosen Option : 1

Q.2 सात मित्र O, P, Q, R, S, T और U एक पंक्ति में बैठ कर फिल्म देख रहे हैं। S एक अंतिम छोर बैठा है। Q, S के दाएँ ओर से दूसरे स्थान पर बैठा है। P, O और Q के बीच में बैठा है। U किसी भी छोर पर नहीं बैठा है। R, T के बाएँ ओर बैठा है। P के ठीक बाएँ ओर कौन बैठा है?

- Ans 1. Q
 2. R
 3. U
 4. O

Question ID : 9895804725
Chosen Option : 1

Q.3 उस विकल्प का चयन करें जो दी गई श्रृंखला में प्रश्न चिह्न (?) के स्थान पर सही रूप में आएगा।

PKZ, NMX, LOV, JQT, ?

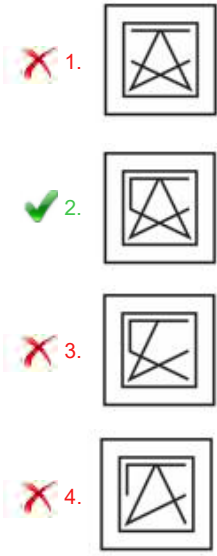
- Ans 1. HSP
 2. HSR
 3. HSO
 4. HST

Question ID : 9895804717
Chosen Option : 2

Q.4 विकल्पों में से उस आकृति का चयन करें जिसमें 'X' से चिह्नित आकृति समाहित है। (घुमाने की अनुमति नहीं है)



Ans



Question ID : 9895804738
Chosen Option : 2

Q.5 उस विकल्प का चयन करें जो दी गई श्रृंखला में प्रश्न चिह्न (?) के स्थान पर आएगा।

4, 20, 36, 52, ?

- Ans
- 1. 67
 - 2. 69
 - 3. 68
 - 4. 70

Question ID : 9895804730
Chosen Option : 3

Q.6 नीचे दिए गए कथनों के बाद दो निष्कर्ष I और II दिए गए हैं। यह मानते हुए कि कथनों में दी गई जानकारी सत्य है, भले ही वह सर्वज्ञात तथ्यों से भिन्न प्रतीत होती हो और यह निर्णय करें कि कौन सा / से निष्कर्ष तार्किक और निश्चित रूप से कथन में दी गई जानकारी का अनुसरण करता है / करते हैं।

कथन:

1. सभी जिप्सियां जाले हैं।
2. सभी जाले घोंसले हैं।

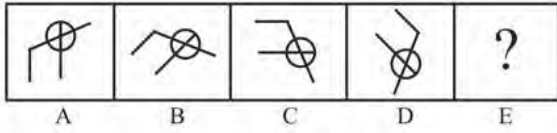
निष्कर्ष

- I: सभी घोंसले जिप्सियां हैं।
- II: कुछ घोंसले जिप्सियां हैं।

- Ans
- 1. केवल निष्कर्ष I अनुसरण करता है।
 - 2. या तो निष्कर्ष I या निष्कर्ष II अनुसरण करता है।
 - 3. केवल निष्कर्ष II अनुसरण करता है।
 - 4. दोनों निष्कर्ष अनुसरण करते हैं।

Question ID : 9895804728
Chosen Option : 3

Q.7 विकल्पों में से उस आकृति का चयन करें जो दी गई श्रृंखला में अगले स्थान पर आएगी।



Ans

- 1.
- 2.
- 3.
- 4.

Question ID : 9895804736

Chosen Option : 3

Q.8 पैटर्न के साथ एक वर्गाकार पारदर्शी कागज पत्रक दिया गया है। पारदर्शी कागज पत्रक को बिंदुंकित रेखा पर मोड़े जाने पर पैटर्न कैसा दिखाई देगा?



Ans

- 1.
- 2.
- 3.
- 4.

Question ID : 9895804740

Chosen Option : 4

Q.9 एक निश्चित कूट भाषा में PENCIL को 59 के रूप में लिखा जाता है। उसी कूट भाषा में ERASER कैसे लिखा जाएगा?

- Ans 1. 65
2. 55
3. 54

✓ 4. 66

Question ID : 9895804724

Chosen Option : 4

Q.1 0 J, K L, M, N और O छः शिक्षक हैं। इनमें से प्रत्येक शिक्षक हिंदी, अंग्रेजी, गणित, विज्ञान, सामाजिक विज्ञान और कला में से अलग-अलग विषय पढ़ाता है, जरूरी नहीं कि इसी क्रम में। प्रत्येक शिक्षक सोमवार से शनिवार के बीच एक दिन ही पढ़ाता है, जरूरी नहीं कि इसी क्रम में। J शनिवार को कला पढ़ाता है। L न तो अंग्रेजी पढ़ाता है न ही सामाजिक विज्ञान, पर वह गुरुवार को पढ़ाता है। बुधवार के दिन K द्वारा गणित पढ़ाया जाता है। O, N के एक दिन पहले विज्ञान पढ़ाता है। सामाजिक विज्ञान, कला के एक दिन पहले पढ़ाया जाता है। सप्ताह के पहले दिन कौन सा विषय पढ़ाया जाता है।

- Ans
- 1. कला
 - 2. विज्ञान
 - 3. अंग्रेजी
 - 4. हिंदी

Question ID : 9895804727

Chosen Option : 3

Q.1 1 उस विकल्प का चयन करें जो तीसरे पद से उसी प्रकार से संबंधित है जिस प्रकार दूसरा पद पहले पद से संबंधित है।
ताला : चाबी :: घोड़ा : ?

- Ans
- 1. रथ
 - 2. सांड
 - 3. सवारी
 - 4. तश्तरी

Question ID : 9895804721

Chosen Option : 4

Q.1 2 एक निश्चित कूट भाषा में ENGINEER को REEINENG के रूप में लिखा जाता है। उसी कूट भाषा में PRODUCER कैसे लिखा जाएगा?

- Ans
- 1. RECDUORP
 - 2. RECDVPRO
 - 3. RECUDORP
 - 4. RECDUPRO

Question ID : 9895804723

Chosen Option : 4

Q.1 3 दिए गए विकल्पों में से असंगत का चयन करें।

- Ans
- 1. DHS
 - 2. RST
 - 3. GFR
 - 4. NJG

Question ID : 9895804718

Chosen Option : 2

Q.1
4

उस विकल्प का चयन करें जो दिए गए पैटर्न में प्रश्न चिह्न (?) के स्थान पर आएगा।

13	23	?
3	4	6
39	92	66

- Ans
1. 7
2. 9
3. 13
4. 11

Question ID : 9895804734

Chosen Option : 4

Q.1 5 दिए गए विकल्पों में से असंगत संख्या का चयन करें।

- Ans
1. 319
2. 247
3. 373
4. 317

Question ID : 9895804733

Chosen Option : 2

Q.1 6 उस विकल्प का चयन करें जो दी गई श्रृंखला में प्रश्न चिह्न (?) के स्थान पर आएगा।

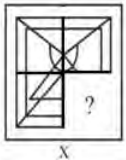
10, 11, 19, 46, ?

- Ans
1. 105
2. 77
3. 82
4. 110

Question ID : 9895804731

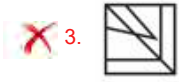
Chosen Option : 4

Q.1 7 दिए गए चार विकल्पों में से उस आकृति को चुनें, जिसे आकृति X के रिक्त स्थान में (बिना घुमाए) रखने पर पैटर्न पूरा हो जाएगा।



X

- Ans
- 1.
- 2.



Question ID : 9895804737
Chosen Option : 4

Q.1 8 दिए गए विकल्पों में से असंगत का चयन करें।

- Ans 1. लहसुन
 2. प्याज़
 3. सरसों
 4. अदरक

Question ID : 9895804719
Chosen Option : 3

Q.1 9 आठ मित्र A, B, C, D, E, F, G और H एक गोलाकार मेज़ के चारों ओर एक दूसरे के तरफ मुंह करके भोजन कर रहे हैं। A, F के सामने और B के दाएँ ओर से तीसरे स्थान पर है। G, F और D के बीच में है। H, D के बाएँ ओर है, E, C और A के बीच में है। E के सामने कौन बैठा है?

- Ans 1. G
 2. B
 3. C
 4. H

Question ID : 9895804726
Chosen Option : 1

Q.2 0 निम्नलिखित समीकरण को सही करने के लिए विकल्पों में दिए गए किन दो चिहनों को परस्पर बदला जाना चाहिए?
 $17 + 28 \times 4 - 5 + 3 = 9$

- Ans 1. \times और $+$
 2. $-$ और \times
 3. $-$ और \div
 4. $+$ और $-$

Question ID : 9895804735
Chosen Option : 1

Q.2 1 उस विकल्प का चयन करें जो दर्पण के दायीं ओर रखे जाने पर दिए गए शब्द की दर्पण छवि से सर्वाधिक मेल खाता है।

CLAMBER

- Ans 1. REBWA7C
 2. REBWA7C
 3. CLAMBER
 4. REBWA7C

Question ID : 9895804739
Chosen Option : 3

Q.2 उस विकल्प का चयन करें जो तीसरे पद से उसी प्रकार से संबंधित है जिस प्रकार दूसरा पद पहले पद से संबंधित है।

2 DFH: HLP:: EGI : ?

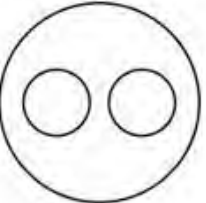
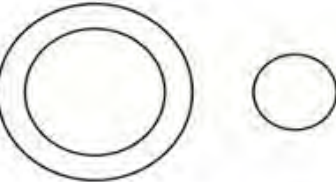
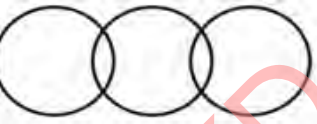
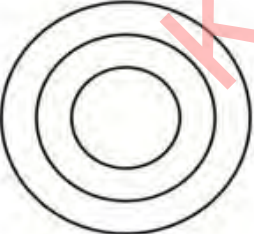
- Ans
- 1. JMR
 - 2. JNP
 - 3. JNR
 - 4. JMP

Question ID : 9895804722
Chosen Option : 3

Q.2 उस वेन आरेख का चयन करें जो दिए गए वर्गों को सर्वोत्तम ढंग से दर्शाता है।

त्रिवेन्द्रम , भारत, केरल

Ans

- 1. 
- 2. 
- 3. 
- 4. 

Question ID : 9895804741
Chosen Option : 4

Q.2 नीचे दिए गए कथनों के बाद दो निष्कर्ष I और II दिए गए हैं। यह मानते हुए कि कथनों में दी गई जानकारी सत्य है, भले ही वह सर्वज्ञात तथ्यों से भिन्न प्रतीत होती हो और यह निर्णय करें कि कौन सा / से निष्कर्ष तार्किक और निश्चित रूप से कथन में दी गई जानकारी का अनुसरण करता है / करते हैं।

कथन :

- 1) कुछ चिड़ियाघर हेंगर हैं।
- 2) कुछ हेंगर मछलियाँ हैं।

निष्कर्ष

- I: कुछ चिड़ियाघर मछलियाँ हैं।
- II: कुछ हेंगर मछलियाँ हैं।

Ans

- ✓ 1. केवल निष्कर्ष ॥ अनुसरण करता है।
- ✗ 2. दोनों निष्कर्ष अनुसरण करते हैं।
- ✗ 3. केवल निष्कर्ष । अनुसरण करता है।
- ✗ 4. न निष्कर्ष । और न ही निष्कर्ष ॥ अनुसरण करता है।

Question ID : 9895804729
Chosen Option : 2

Q.2 5 उस विकल्प का चयन करें जो तीसरे पद से उसी प्रकार से संबंधित है जिस प्रकार दूसरा पद पहले पद से संबंधित है।
अपव्यय करना : लुटाना :: उतरना : ?

Ans

- ✗ 1. भ्रम
- ✗ 2. दुर्लभता
- ✓ 3. नीचे आना
- ✗ 4. निषेध

Question ID : 9895804720
Chosen Option : 3

Q.2 6 'बीकमिंग' (Becoming) शीर्षक पुस्तक के लेखक कौन हैं?

Ans

- ✓ 1. मिशेल ओबामा
- ✗ 2. मिलेनिया ट्रम्प
- ✗ 3. शशि थरूर
- ✗ 4. तेरस मई

Question ID : 9895802630
Chosen Option : 4

Q.2 7 भारत सरकार के निम्नलिखित में से कौन-सा विभाग भुगतान बैंक का संचालन करता है?

Ans

- ✗ 1. वित्तीय समावेशन विभाग
- ✗ 2. लेखा संबंधी मामलों का विभाग
- ✗ 3. आर्थिक मामले विभाग
- ✓ 4. डाक विभाग

Question ID : 9895802633
Chosen Option : 2

Q.2 8 हाइपरमेट्रोपिया के बारे में निम्नलिखित में से कौन-सा कथन गलत है?

Ans

- ✗ 1. इसे दूर-दृष्टि भी कहा जाता है।
- ✗ 2.

यह इसलिए भी उत्पन्न हो सकती है क्योंकि आंखों के लेंस की फोकल लंबाई बहुत लंबी होती है।

- ✗ 3.

प्रभावित व्यक्ति आस-पास की वस्तुओं को ठीक से नहीं देख सकता है।

✓ 4.

नेत्र-गोलक (आई-बॉल) में वृद्धि दोष के कारणों में से एक है।

Question ID : 9895802638
Chosen Option : 2

Q.2 संविधान सभा की मसौदा समिति के अध्यक्ष कौन थे?

- Ans
- 1. जवाहर लाल नेहरू
 - 2. बी.आर. अम्बेडकर
 - 3. राजेन्द्र प्रसाद
 - 4. के.एम. मुंशी

Question ID : 9895802637
Chosen Option : 4

Q.3 निम्नलिखित में से कौन सा विकल्प शस्योत्सव है?

- Ans
- 1. जन्माष्टमी
 - 2. ओणम
 - 3. दशहरा
 - 4. अक्षय तृतीया

Question ID : 9895802624
Chosen Option : 1

Q.3 निम्नलिखित में से कौन-सा संगठन विश्व विकास रिपोर्ट प्रकाशित करता है?

- Ans
- 1. यूएनडीपी
 - 2. विश्व बैंक
 - 3. यूनेस्को
 - 4. अंतर्राष्ट्रीय मुद्रा कोष

Question ID : 9895802632
Chosen Option : 3

Q.3 निम्नलिखित में से कौन सी योजना वित्तीय समावेशन के लिए केंद्र सरकार के कदमों में से नहीं है?

- Ans
- 1. प्रधानमंत्री जन धन योजना
 - 2. प्रधानमंत्री जीवन ज्योति बीमा योजना
 - 3. प्रधानमंत्री उज्ज्वला योजना
 - 4. प्रधानमंत्री सुरक्षा बीमा योजना

Question ID : 9895802634
Chosen Option : 2

Q.3 निम्नलिखित में से कौन असम से संबंधित लोक नृत्य शैली नहीं है?

Ans

- 1. बगुरंबा
- 2. बिहु
- 3. सत्रीया नृत्य
- 4. मंदजास

Question ID : 9895802625

Chosen Option : 3

Q.3

4

निम्नलिखित में से कौन सी गैर-आवश्यक जीवन प्रक्रिया है?

Ans

- 1. पोषण
- 2. संचारण
- 3. उत्सर्जन
- 4. प्रजनन

Question ID : 9895802640

Chosen Option : 2

Q.3

5

रामनाथ गोयनका पुरस्कार किस क्षेत्र में योगदान के लिए प्रदान किये जाते हैं?

Ans

- 1. पत्रकारिता
- 2. खेल
- 3. महिला सशक्तिकरण
- 4. ग्रामीण स्वच्छता

Question ID : 9895802629

Chosen Option : 1

Q.3

6

निम्नलिखित में से कौन सी नदी प्रसिद्ध शिवसमुद्रम जलप्रपात बनाती है?

Ans

- 1. काली सिंध
- 2. कावेरी
- 3. तुंगभद्रा
- 4. कृष्णा

Question ID : 9895802644

Chosen Option : 3

Q.3

7

पश्चिमी घाट की सबसे ऊँची चोटी कौन सी है?

Ans

- 1. महेन्द्रगिरी
- 2. अनामुड़ी
- 3. बाबा बुदन गिरि
- 4. डोडा बेड़ा

Question ID : 9895802643

Chosen Option : 3

Q.3
8 निम्नलिखित में से किस राज्य में जनसंख्या घनत्व सबसे अधिक है?

- Ans
- 1. पश्चिम बंगाल
 - 2. तमिलनाडु
 - 3. उत्तर प्रदेश
 - 4. बिहार

Question ID : 9895802645
Chosen Option : 4

Q.3
9 गुरुत्वाकर्षण बल के बारे में निम्नलिखित में से कौन-सा कथन सही नहीं है?

- Ans
- 1. यह वस्तुओं के बीच की दूरी के वर्ग के व्युत्क्रमानुपाती होता है।
 - 2. यह वस्तुओं के द्रव्यमान के उत्पाद के व्युत्क्रमानुपाती होता है।
 - 3. यह एक दूसरे के प्रति ब्रह्मांड की प्रत्येक वस्तु के आकर्षण के लिए जिम्मेदार बल है।
 - 4. न्यूटन ने गुरुत्वाकर्षण बल पर अपने शोध में केप्लर के सिद्धांतों पर भरोसा किया।

Question ID : 9895802642
Chosen Option : 3

Q.4
0 भारतीय संविधान के निम्नलिखित में से किस अनुभाग को 'भारतीय संविधान की अंतरात्मा' के रूप में भी जाना जाता है?

- Ans
- 1. अधिसूचित भाषाएँ
 - 2. संघवाद
 - 3. मौलिक अधिकार
 - 4. नागरिकता

Question ID : 9895802636
Chosen Option : 3

Q.4
1 निम्नलिखित में से कौन विश्व विरासत स्थल नहीं है?

- Ans
- 1. आगरा का किला
 - 2. भीमबेटका शैलाश्रय
 - 3. आदमगढ़ शैलाश्रय
 - 4. अजंता की गुफाएँ

Question ID : 9895802626
Chosen Option : 3

Q.4
2 भारतीय संविधान में, 'अवशिष्ट मामलों' पर कानून बनाने का अधिकार किसे सौंपा गया है?

Ans

- ✓ 1. केंद्र सरकार
- ✗ 2. सर्वोच्च न्यायालय
- ✗ 3. उच्च न्यायालय
- ✗ 4. राज्य सरकार

Question ID : 9895802635
Chosen Option : 1

Q.4
3 सुल्ताना रज़िया के पिता कौन थे?

Ans

- ✗ 1. मुहम्मद तुगलक
- ✓ 2. इल्तुतमिश
- ✗ 3. बलबन
- ✗ 4. कैकूबाद

Question ID : 9895802647
Chosen Option : 2

Q.4
4 भारतीय व्यापारी और समाज-सेवी अजीम प्रेमजी को हाल ही में शेवेलियर डे ला लीजन डी ऑनर से सम्मानित किया गया था। यह किस देश का उच्चतम नागरिक सम्मान है?

Ans

- ✗ 1. ब्रिटेन
- ✓ 2. फ्रांस
- ✗ 3. जर्मनी
- ✗ 4. स्पेन

Question ID : 9895802631
Chosen Option : 2

Q.4
5 2018 के अर्जुन पुरस्कार से सम्मानित रोहन बोपन्ना, किस खेल में उपलब्धियों के लिए जाने जाते हैं?

Ans

- ✗ 1. पैरा बैडमिंटन
- ✗ 2. कुश्ती
- ✓ 3. टेनिस
- ✗ 4. शूटिंग

Question ID : 9895802628
Chosen Option : 3

Q.4
6 निम्नलिखित में से कौन-सा एक नवपाषाण सांस्कृतिक स्थल नहीं है?

Ans

- ✗ 1. मेहरगढ़
- ✗ 2. कोल्दिहवा
- ✗ 3. बुर्जहोम
- ✓ 4. कुन्तासी

Question ID : 9895802646

Chosen Option : 4

Q.4
7 मौलाना अबुल कलाम आज़ाद (MAKA) ट्रॉफी को केंद्र सरकार द्वारा निम्न में से किसको दिया जाता है?

Ans 1.

अंतर-विश्वविद्यालयीय टूर्नामेंट में समग्र रूप में शीर्ष प्रदर्शन करने वाले विश्वविद्यालय

2.

खेल संवर्धन और विकास के क्षेत्र में महत्वपूर्ण भूमिका निभाने वाली कॉर्पोरेट इकाइयों

3.

वर्ष में आयोजित अंतर्राष्ट्रीय कार्यक्रमों में समग्र रूप में शीर्ष प्रदर्शन करने वाले एथलीट

4.

राष्ट्रीय स्तर के टूर्नामेंटों में समग्र रूप में शीर्ष प्रदर्शन करने वाले राज्य

Question ID : 9895802627

Chosen Option : 2

Q.4
8 भारत में स्वदेशी आंदोलन के दौरान स्वराज ध्वज किसने डिज़ाइन किया था?

Ans 1. रबिन्द्रनाथ टैगोर

2. महात्मा गांधी

3. बाल गंगाधर तिलक

4. अबनिंद्रनाथ टैगोर

Question ID : 9895802648

Chosen Option : 4

Q.4
9 किसी भी खाद्य श्रृंखला में, शीर्ष स्तर पर कौन कब्जा कर लेता है?

Ans 1. चील

2. मनुष्य

3. सर्प

4. शेर

Question ID : 9895802639

Chosen Option : 4

Q.5
0 पत्ते का वह भाग जो इसे तने से जोड़ता है, वह कहलाता है:

Ans 1. नस

2. पत्रदल

3. डंठल

4. अनुपर्ण

Question ID : 9895802641

Chosen Option : 4

Q.5
1 18 मजदूर एक कार्य के एक-तिहाई को 27 दिन में पूरा कर सकते हैं। कितने मजदूर पूर्ण कार्य को 9 दिन में पूरा कर सकते हैं?

Ans 1. 112 दिन

2. 148 दिन

3. 128 दिन

4. 162 दिन

Question ID : 9895804374
Chosen Option : 4

Q.5 पहली वस्तु का क्रय मूल्य ₹ 480 है तथा दूसरी वस्तु का विक्रय मूल्य ₹ 480 है। यदि पहली वस्तु पर 20% लाभ होता है तथा दूसरी वस्तु पर 20% हानि होती है, तो कुल हानि क्या होगी?

Ans 1. ₹ 20

2. ₹ 24

3. ना लाभ ना हानि

4. ₹ 18

Question ID : 9895804368
Chosen Option : 3

Q.5 यदि $p : q = 7 : 8$ है, तो $(p^2/q) : (q^2/p)$ क्या होगा?

Ans 1. 343 : 512

2. 512 : 343

3. 7 : 8

4. 49 : 64

Question ID : 9895804371
Chosen Option : 1

Q.5 मोहित तथा सुमित क्रमशः ₹ 66000 तथा ₹ 84000 निवेश के साथ व्यापार शुरु करते हैं। यदि वर्ष के अंत में वे 11 : 9 के अनुपात में लाभ कमाते हैं, तो उनके द्वारा निवेश की गई पूँजी की समय अवधि का अनुपात क्या होगा?

Ans 1. 7 : 11

2. 14 : 9

3. 9 : 11

4. 33 : 42

Question ID : 9895804369
Chosen Option : 2

Q.5 एक बेलन का वक्र पृष्ठीय क्षेत्रफल 1056 से.मी.^2 है। यदि बेलन की ऊँचाई 8 से.मी. है, तो इसके आधार का व्यास क्या होगा?

Ans 1. 42 से.मी.

2. 24.5 से.मी.

3. 21 से.मी.

4. 14.5 से.मी.

Question ID : 9895804378
Chosen Option : 3

Q.5 एक मशीन का अंकित मूल्य उसके क्रय मूल्य से 70% अधिक है। यदि मशीन को 44.5% के लाभ पर बेचा गया है, तो छूट प्रतिशत क्या होगा?

Ans 1. 25%

2. 17%
3. 20%
4. 15%

Question ID : 9895804364
Chosen Option : 4

Q.5
7 नीचे दिए गए बार चार्ट में 7 क्रमागत वर्षों Y1, Y2, Y3, Y4, Y5, Y6 तथा Y7

के लिए एक देश के कुल निर्यात को (1000 करोड़ ₹ में) दर्शाया गया है।



कौन सा वर्ष पिछले वर्ष की तुलना में निर्यात में सबसे अधिकतम बदलाव प्रतिशत

दर्शाता है?

- Ans 1. Y3
2. Y4
3. Y5
4. Y2

Question ID : 9895804382
Chosen Option : 4

Q.5
8 $528 - 24 \times \frac{4}{3}$ का $\frac{25}{7} \div \frac{1}{2}$ का मान क्या है?

- Ans 1. 1920/7
2. 2125/9
3. 1926/7
4. 2096/7

Question ID : 9895804360
Chosen Option : 4

Q.5
9 एक दिन में 4 घंटे कार्य करके, R एक कार्य को 12 दिन में पूरा कर सकता है तथा एक दिन में 8 घंटे कार्य करके, A समान कार्य को 9 दिन में पूरा कर सकता है। एक दिन में 2 घंटे कार्य करके, R तथा A दोनों मिलकर उसी कार्य को कितने दिन में पूरा कर सकते हैं?

- Ans 1. 48/5 दिन
2. 72 दिन
3. 72/5 दिन
4. 36/5 दिन

Question ID : 9895804375
Chosen Option : 2

Q.6 एक थैले में सफेद तथा पीली गेंद क्रमशः 12 : 17 के अनुपात में हैं। यदि कुल गेंदों की संख्या 116 है, तो पीली गेंद कितनी हैं?

- Ans 1. 68

2. 74

3. 76

4. 62

Question ID : 9895804370
Chosen Option : 1

Q.6 मनोज 20 कि.मी. तथा 36 कि.मी. की दो दूरियों को क्रमशः 5 घंटे तथा 3 घंटे में तय करता है। संपूर्ण यात्रा के लिए
1 मनोज की औसत गति क्या होगी?

Ans 1. 6 कि.मी./घंटा

2. 5 कि.मी./घंटा

3. 7 कि.मी./घंटा

4. 8 कि.मी./घंटा

Question ID : 9895804377
Chosen Option : 1

Q.6 एक घनाभ की लंबाई, चौड़ाई तथा ऊँचाई 5 : 4 : 2 के अनुपात में हैं। यदि घनाभ का आयतन 5000 से.मी.³ है, तो
2 घनाभ का कुल पृष्ठीय क्षेत्रफल क्या होगा?

Ans 1. 1800 से.मी.²

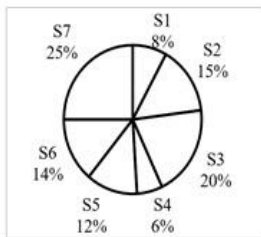
2. 1900 से.मी.²

3. 1750 से.मी.²

4. 2100 से.मी.²

Question ID : 9895804379
Chosen Option : 3

Q.6 नीचे दिया गया पाई चार्ट एक देश के 7 राज्यों द्वारा प्राप्त वार्षिक बर्फबारी को दर्शाता है। बर्फबारी को देश की कुल वार्षिक बर्फबारी के प्रतिशत के रूप में दर्शाया गया है।



यदि देश द्वारा प्राप्त वार्षिक बर्फबारी 700 से.मी. है, तो S2, S6 और S7 की

औसत वार्षिक बर्फबारी क्या है?

Ans 1. 126 से.मी.

2. 154 से.मी.

3. 84 से.मी.

4. निर्धारित नहीं किया जा सकता है

Question ID : 9895804381
Chosen Option : 1

Q.6 1400 लड़के तथा 900 लड़कियों ने एक परीक्षा दी। यदि 52% लड़के तथा 68% लड़कियाँ परीक्षा में उत्तीर्ण होते हैं, तो परीक्षा में अनुत्तीर्ण होने वाले विद्यार्थियों का प्रतिशत क्या है?

- Ans
- 1. 41.74%
 - 2. 36.28%
 - 3. 63.72%
 - 4. 58.26%

Question ID : 9895804365

Chosen Option : 1

Q.6 एक वस्तु का क्रय मूल्य ₹ 1126 है तथा हानि 22% है, तो कुल हानि क्या होगी?

- Ans
- 1. ₹ 252.60
 - 2. ₹ 247.72
 - 3. ₹ 232.20
 - 4. ₹ 260.52

Question ID : 9895804367

Chosen Option : 1

Q.6 यदि छह लगातार सम संख्याओं का औसत 11 है, तो उनमें से सबसे छोटी संख्या क्या होगी?

- Ans
- 1. 10
 - 2. 8
 - 3. 6
 - 4. 4

Question ID : 9895804363

Chosen Option : 3

Q.6 एक ₹ 10000 की राशि साधारण ब्याज पर 15% की वार्षिक दर से P वर्षों में ₹ 16000 हो जाती है। P का मान क्या होगा?

- Ans
- 1. 4 वर्ष
 - 2. 5 वर्ष
 - 3. 6 वर्ष
 - 4. 3 वर्ष

Question ID : 9895804372

Chosen Option : 1

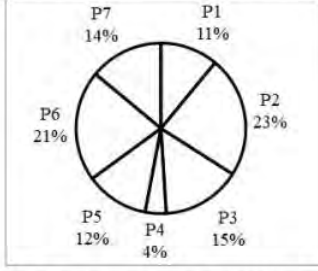
Q.6 $680 - 520 \div 5 - \frac{12}{13}$ का $\left(\frac{3}{4} + \frac{1}{3}\right)$ का मान क्या है?

- Ans
- 1. 571
 - 2. 577
 - 3. 574
 - 4. 575

Question ID : 9895804361

Chosen Option : 4

Q.6 नीचे दिया गया पाई चार्ट एक देश के लिए 7 विभिन्न वस्तुओं P1, P2, P3, P4, P5, P6 तथा P7 के आयात को कुल आयात के प्रतिशत के रूप में दर्शाता है।



यदि देश का कुल आयात ₹ 3000000 है, तो आइटम P6 का आयात कितना है?

- Ans
- 1. 450000
 - 2. 630000
 - 3. 720000
 - 4. 690000

Question ID : 9895804383

Chosen Option : 2

Q.7 यदि दो संख्याओं का महत्तम समापवर्तक 12 है, तो निम्न में से कौन सा उनका लघुत्तम समापवर्तक नहीं हो सकता है?

- Ans
- 1. 24
 - 2. 80
 - 3. 48
 - 4. 60

Question ID : 9895804359

Chosen Option : 2

Q.7 एक संख्या को 40% बढ़ाया जाता है तथा परिणामी संख्या को 25% घटाया जाता है। कुल कितने प्रतिशत की वृद्धि होगी?

- Ans
- 1. 5%
 - 2. 4%
 - 3. 10%
 - 4. 6%

Question ID : 9895804366

Chosen Option : 1

Q.7 दो त्रिभुजों के क्षेत्रफलों का अनुपात 6 : 1 है तथा उनके आधारों का अनुपात 3 : 2 है। उनकी ऊँचाइयों का अनुपात क्या है?

- Ans
- 1. 2 : 3
 - 2. 5 : 1
 - 3. 4 : 1
 - 4. 2 : 1

Question ID : 9895804380

Chosen Option : 3

Q.7 एक 420 मीटर लम्बी रेलगाड़ी 120 कि.मी./घंटा की गति से चल रही है। एक 580 मीटर लम्बे प्लेटफार्म को पार करने में वह कितना समय लेगी?

- Ans
- 1. 45 सेकण्ड
 - 2. 40 सेकण्ड
 - 3. 48 सेकण्ड
 - 4. 30 सेकण्ड

Question ID : 9895804376
Chosen Option : 4

Q.7 एक दुकान में 60 वस्तुएं हैं। 30 वस्तुओं का औसत मूल्य ₹ 30 है तथा शेष वस्तुओं का औसत मूल्य ₹ 35 है। सभी वस्तुओं को मिलाकर औसत मूल्य क्या है?

- Ans
- 1. ₹ 32.5
 - 2. ₹ 33.5
 - 3. ₹ 34
 - 4. ₹ 33

Question ID : 9895804362
Chosen Option : 1

Q.7 एक राशि पर 4 वर्षों का साधारण ब्याज ₹ 24000 है तथा समान राशि का, समान ब्याज दर से 2 वर्षों का चक्रबुद्धि ब्याज (ब्याज का संयोजन वार्षिक किया गया है) ₹ 12750 है। ब्याज की वार्षिक दर क्या है?

- Ans
- 1. 15%
 - 2. 18%
 - 3. 12.5%
 - 4. 20%

Question ID : 9895804373
Chosen Option : 3

Section : English Language

Q.1 Select the most appropriate option to substitute the underlined segment in the given sentence. If there is no need to substitute it, select No improvement.

By seeing the cameras the villagers were convinced that the tourists intended to take photographs.

- Ans
- 1. No improvement
 - 2. Saw a camera
 - 3. Seeing the cameras
 - 4. Seen the cameras

Question ID : 9895804837
Chosen Option : --

Q.2 Select the most appropriate option to substitute the underlined segment in the given sentence. If there is no need to substitute it, select No improvement.

One can succeed in business unless one is prepared to take risks.

- Ans
- 1. One cannot succeed
 - 2. One cannot hardly succeed
 - 3. No one cannot succeed
 - 4. No improvement

Question ID : 9895804835

Chosen Option : --

Q.3 Select the most appropriate word to fill in the blank.

He _____ himself from taking sugary foods.

- Ans 1. restricted
 2. recovered
 3. removed
 4. resorted

Question ID : 9895804828
Chosen Option : --

Q.4 Select the most appropriate word to fill in the blank.

While walking on the beach we _____ seashells.

- Ans 1. needed
 2. collected
 3. assembled
 4. increased

Question ID : 9895804829
Chosen Option : --

Q.5 Select the most appropriate option to substitute the underlined segment in the given sentence. If there is no need to substitute it, select No improvement.

I am not frightened of Shere Khan so I know that he is very cunning.

- Ans 1. in case I know
 2. No improvement
 3. but I know
 4. so I know

Question ID : 9895804836
Chosen Option : --

Q.6 Identify the segment in the sentence which contains the grammatical error from the given options.

Today we are closer to reaching an agreement that we were a few months ago.

- Ans 1. that we were
 2. to reaching
 3. we are closer
 4. a few months ago

Question ID : 9895804831
Chosen Option : --

Comprehension:

In the following passage some words have been deleted. Fill in the blanks with the help of the alternatives given. Select the most appropriate option for each number.

There is an important aspect which (1) _____ a mention in any discussion of the future of Indian theatre. It is the (2) _____ development of the cinema as a competitor for (3) _____ among people. In (4) _____ early flush of cinematic triumph, the experts in the field (5) _____ the extinction of the theatre.

SubQuestion No : 7

Q.7 Fill in blank (1) with the most appropriate option.

- Ans
- 1. deserves
 - 2. involves
 - 3. dictates
 - 4. invites

Question ID : 9895804839

Chosen Option : --

Comprehension:

In the following passage some words have been deleted. Fill in the blanks with the help of the alternatives given. Select the most appropriate option for each number.

There is an important aspect which (1) _____ a mention in any discussion of the future of Indian theatre. It is the (2) _____ development of the cinema as a competitor for (3) _____ among people. In (4) _____ early flush of cinematic triumph, the experts in the field (5) _____ the extinction of the theatre.

SubQuestion No : 8

Q.8 Fill in blank (2) with the most appropriate option.

- Ans
- 1. express
 - 2. hurried
 - 3. rapid
 - 4. prompt

Question ID : 9895804840

Chosen Option : --

Comprehension:

In the following passage some words have been deleted. Fill in the blanks with the help of the alternatives given. Select the most appropriate option for each number.

There is an important aspect which (1) _____ a mention in any discussion of the future of Indian theatre. It is the (2) _____ development of the cinema as a competitor for (3) _____ among people. In (4) _____ early flush of cinematic triumph, the experts in the field (5) _____ the extinction of the theatre.

SubQuestion No : 9

Q.9 Fill in blank (3) with the most appropriate option.

- Ans
- 1. fame
 - 2. choice
 - 3. demand
 - 4. popularity

Question ID : 9895804841

Chosen Option : --

Comprehension:

In the following passage some words have been deleted. Fill in the blanks with the help of the alternatives given. Select the most appropriate option for each number.

There is an important aspect which (1) _____ a mention in any discussion of the future of Indian theatre. It is the (2) _____ development of the cinema as a competitor for (3) _____ among people. In (4) _____ early flush of cinematic triumph, the experts in the field (5) _____ the extinction of the theatre.

SubQuestion No : 10

Q.10 Fill in blank (4) with the most appropriate option.

- Ans
- 1. some
 - 2. one
 - 3. the

4. a

Question ID : 9895804842

Chosen Option : --

Comprehension:

In the following passage some words have been deleted. Fill in the blanks with the help of the alternatives given. Select the most appropriate option for each number.

There is an important aspect which (1) _____ a mention in any discussion of the future of Indian theatre. It is the (2) _____ development of the cinema as a competitor for (3) _____ among people. In (4) _____ early flush of cinematic triumph, the experts in the field (5) _____ the extinction of the theatre.

SubQuestion No : 11

Q.1
1 Fill in blank (5) with the most appropriate option.

- Ans
- 1. regarded
 - 2. calculated
 - 3. predicted
 - 4. studied

Question ID : 9895804843

Chosen Option : --

Q.1
2 Identify the segment in the sentence which contains the grammatical error from the given options.

We have to check the records to find out how much cheques have been collected so far.

- Ans
- 1. have to check
 - 2. to find out
 - 3. much cheques
 - 4. have been collected

Question ID : 9895804830

Chosen Option : --

Q.1
3 Select the most appropriate word to fill in the blank.

He was vexed _____ the behaviour of his daughter.

- Ans
- 1. from
 - 2. for
 - 3. on
 - 4. with

Question ID : 9895804834

Chosen Option : --

Q.1
4 Identify the segment in the sentence which contains the grammatical error from the given options.

We must realize that learning from mistakes are an important part of life.

- Ans
- 1. part of life
 - 2. that learning from
 - 3. We must realize
 - 4. mistakes are

Question ID : 9895804832

Chosen Option : --

Q.1
5 Select the most appropriate synonym of the given word.

GLOOMY

- Ans
- 1. Dull
 - 2. Bright
 - 3. Painful
 - 4. Light

Question ID : 9895804818
Chosen Option : --

Q.1
6 Select the word which means the same as the group of words given.

A person who eats too much

- Ans
- 1. Glutton
 - 2. Greedy
 - 3. Obese
 - 4. Liberal

Question ID : 9895804826
Chosen Option : --

Q.1
7 Select the word which means the same as the group of words given.

That which cannot be conquered

- Ans
- 1. Invisible
 - 2. Inevitable
 - 3. Incapable
 - 4. Invincible

Question ID : 9895804827
Chosen Option : --

Q.1
8 Select the most appropriate word to fill in the blank.

Owing to the heavy rains the office building was badly _____.

- Ans
- 1. damage
 - 2. damaging
 - 3. damages
 - 4. damaged

Question ID : 9895804833
Chosen Option : --

Q.1
9 Select the most appropriate ANTONYM of the given word.

SOGGY

Ans

- 1. Moist
- 2. Damp
- 3. Cool
- 4. Dry

Question ID : 9895804820
Chosen Option : --

Q.2
0 Select the correctly spe

- Ans
- 1. immigiate
 - 2. immediate
 - 3. imediate
 - 4. immidiate

Question ID : 9895804825
Chosen Option : --

Q.2
1 Select the most appropriate meaning of the given idiom.

At daggers drawn

- Ans
- 1. Being irritated
 - 2. Being familiar
 - 3. Being friendly
 - 4. Being hostile

Question ID : 9895804822
Chosen Option : --

Q.2
2 Select the most appropriate synonym of the given word.

MENACE

- Ans
- 1. Help
 - 2. Harassment
 - 3. Nuisance
 - 4. Delight

Question ID : 9895804819
Chosen Option : --

Q.2
3 Select the most appropriate ANTONYM of the given word.

MISERABLE

- Ans
- 1. Hopeless
 - 2. Cheerful
 - 3. Lonely
 - 4. Miserly

Question ID : 9895804821

Chosen Option : --

Q.2
4 Select the correctly spelt word.

- Ans 1. Beggar
 2. Begger
 3. Baggar
 4. Bagger

Question ID : 9895804824
Chosen Option : --Q.2
5 Select the most appropriate meaning of the given idiom.

Once in a blue moon

- Ans 1. Usually
 2. Never
 3. Rarely
 4. Frequently

Question ID : 9895804823
Chosen Option : --

Section : Hindi Language

Q.1 सही वर्तनी वाले शब्द का चयन करें।

- Ans 1. निरकार
 2. निराकार
 3. निर्कार
 4. नीराकार

Question ID : 9895803799
Chosen Option : 2

Q.2 रिक्त स्थान को भरने के लिए उपयुक्त शब्द का चयन करें।

नेता ने बहुत ही बढ़िया _____ दिया।

- Ans 1. आख्यान
 2. वाद-विवाद
 3. प्रवचन
 4. भाषण

Question ID : 9895803782
Chosen Option : 4

Q.3 निम्नलिखित में से उस विकल्प का चयन करें जो 'चेहरे पर हवाइयाँ उड़ना' मुहावरे का अर्थ व्यक्त करता है।

- Ans 1. निश्चित होना

2. चेहरे पर हवा लगना
3. घबरा जाना
4. प्रसन्न होना

Question ID : 9895803795
Chosen Option : 3

Q.4 दिए गए वाक्य में रेखांकित खंड को प्रतिस्थापित करने के लिए उपयुक्त विकल्प का चयन करें।

मजदूर ने चटनी की रोटी खाई और काम पर चला गया।

- Ans
1. मजदूर ने रोटी का चटनी खाई
2. मजदूर ने चटनी से रोटी खाई
3. मजदूर ने रोटी को चटनी खाई
4. मजदूर ने रोटी के चटनी खाई

Question ID : 9895803779
Chosen Option : 2

Q.5 दिए गए शब्द का विलोम चुनें।

कनिष्ठ

- Ans
1. वरिष्ठ
2. सहायक
3. अनुदार
4. सहकर्मी

Question ID : 9895803790
Chosen Option : 1

Q.6 दिये गये वाक्यांश के लिए एक शब्द दीजिये।

साथ चलने वाला

- Ans
1. सहगामी
2. सहयोग
3. सहयोगी
4. प्रतिगामी

Question ID : 9895803796
Chosen Option : 1

Q.7 दिए गए वाक्य का वह भाग ज्ञात करें जिसमें कोई त्रुटि है।

संतों को जीवन परोपकार के लिए होता है।

- Ans
1. जीवन
2. परोपकार के लिए

✓ 3. संतों को

✗ 4. होता है।

Question ID : 9895803775

Chosen Option : 3

Q.8 निम्नलिखित में से उस विकल्प का चयन करें जो 'एक ही थैली के चढ़े-बढ़े' मुहावरे का अर्थ व्यक्त करता है।

Ans

✓ 1. एक जैसे लोग

✗ 2. एक शकल के लोग

✗ 3. एक ही नाम वाले लोग

✗ 4. एक थैले में चढ़े और बढ़े रखना

Question ID : 9895803794

Chosen Option : 1

Q.9 दिए गए शब्द का विलोम चुनें।

विस्तृत

Ans

✗ 1. अधम

✓ 2. संक्षिप्त

✗ 3. दीर्घ

✗ 4. अवर

Question ID : 9895803791

Chosen Option : 2

Q.10 रिक्त स्थान को भरने के लिए उपयुक्त शब्द का चयन करें।

राम ने रावण से _____ किया।

Ans

✗ 1. भेदभाव

✓ 2. युद्ध

✗ 3. समझौता

✗ 4. ईर्ष्या

Question ID : 9895803783

Chosen Option : 2

Q.11 दिए गए शब्द के पर्यायवाची शब्द का चयन करें।

अभ्युदय

Ans

✗ 1. इच्छा

✓ 2. उन्नति

✗ 3. अवनति

✗ 4. आकांक्षा

Question ID : 9895803792
Chosen Option : 4

Q.1
2 दिए गए वाक्य का वह भाग ज्ञात करें जिसमें कोई त्रुटि है।

आज दुर्भाग्य से शिक्षण संस्थाओं पर अनुशासनहीनता का आधिक्य है।

- Ans
- 1. आधिक्य है।
 - 2. अनुशासनहीनता का
 - 3. शिक्षण संस्थाओं पर
 - 4. आज दुर्भाग्य से

Question ID : 9895803776
Chosen Option : 1

Q.1
3 रिक्त स्थान को भरने के लिए उपयुक्त शब्द का चयन करें।

साहिल को पाँच _____ दूध चाहिए।

- Ans
- 1. दर्जन
 - 2. किलो
 - 3. मीटर
 - 4. लीटर

Question ID : 9895803780
Chosen Option : 4

Q.1
4 सही वर्तनी वाले शब्द का चयन करें।

- Ans
- 1. निरामईष
 - 2. नीरामिष
 - 3. निरामिष
 - 4. निरामिश

Question ID : 9895803798
Chosen Option : 3

Q.1
5 दिए गए वाक्य का वह भाग ज्ञात करें जिसमें कोई त्रुटि है।

मानव जाति अपने को पशुओं का श्रेष्ठ और सभ्य होने का दावा करती है।

- Ans
- 1. मानव जाति
 - 2. श्रेष्ठ और सभ्य होने का
 - 3. अपने को पशुओं का
 - 4. दावा करती है।

Question ID : 9895803774
Chosen Option : 3

Q.1
6 दिये गये वाक्यांश के लिए एक शब्द दीजिये।

परोपकार करने वाला

- Ans
- 1. सहकारी
 - 2. कृतज्ञ
 - 3. कृतघ्न
 - 4. परोपकारी

Question ID : 9895803797
Chosen Option : 4

Q.1
7 दिए गए शब्द के पर्यायवाची शब्द का चयन करें।

प्रकृति

- Ans
- 1. कुदरत
 - 2. सृष्टि
 - 3. हरियाली
 - 4. संसार

Question ID : 9895803793
Chosen Option : 1

Q.1
8 दिए गए वाक्य में रेखांकित खंड को प्रतिस्थापित करने के लिए उपयुक्त विकल्प का चयन करें।

अपने कार्य को अपने आप करना ही स्वावलंबन कहलाती है।

- Ans
- 1. स्वावलंबी कहलाता है।
 - 2. स्वावलंबन कहलाते है।
 - 3. स्वावलंबन कहलाता है।
 - 4. स्वावलंबन कहलाते हैं।

Question ID : 9895803777
Chosen Option : 3

Comprehension:

निम्नलिखित गद्यांश के रिक्त स्थानों की पूर्ति गद्यांश के नीचे दिए गए प्रश्नों के अनुसार कीजिए -

_____ (1) अनमोल धन है। इसकी _____ (2) किसी से भी नहीं की जा सकती। हीरे _____ (3) या सोने-चाँदी से भी नहीं। सच्ची मित्रता में किसी कारण से _____ (4) नहीं आ सकता। बाइबिल में कहा गया है कि एक सच्चा मित्र विश्व की _____ (5) दवा है।

SubQuestion No : 19

Q.1
9 गद्यांश में संकेतित रिक्त स्थान (1) के लिए उपयुक्त शब्द होगा-

- Ans
- 1. बहनापा

2. भाईचारा
3. शिशुता
4. मित्रता

Question ID : 9895803785
Chosen Option : 4

Comprehension:

निम्नलिखित गद्यांश के रिक्त स्थानों की पूर्ति गद्यांश के नीचे दिए गए प्रश्नों के अनुसार कीजिए -

_____ (1) अनमोल धन है। इसकी _____ (2) किसी से भी नहीं की जा सकती। हीरे _____ (3) या सोने-चाँदी से भी नहीं। सच्ची मित्रता में किसी कारण से _____ (4) नहीं आ सकता। बाइबिल में कहा गया है कि एक सच्चा मित्र विश्व की _____ (5) दवा है।

SubQuestion No : 20

Q.2
0 गद्यांश में संकेतित रिक्त स्थान (2) के लिए उपयुक्त शब्द होगा-

- Ans 1. अपेक्षा
2. तुलना
3. बड़ाई
4. उपेक्षा

Question ID : 9895803786
Chosen Option : 2

Comprehension:

निम्नलिखित गद्यांश के रिक्त स्थानों की पूर्ति गद्यांश के नीचे दिए गए प्रश्नों के अनुसार कीजिए -

_____ (1) अनमोल धन है। इसकी _____ (2) किसी से भी नहीं की जा सकती। हीरे _____ (3) या सोने-चाँदी से भी नहीं। सच्ची मित्रता में किसी कारण से _____ (4) नहीं आ सकता। बाइबिल में कहा गया है कि एक सच्चा मित्र विश्व की _____ (5) दवा है।

SubQuestion No : 21

Q.2
1 गद्यांश में संकेतित रिक्त स्थान (3) के लिए उपयुक्त शब्द होगा

- Ans 1. मोती
2. रूपा
3. लाल
4. रत्न

Question ID : 9895803787
Chosen Option : 1

Comprehension:

निम्नलिखित गद्यांश के रिक्त स्थानों की पूर्ति गद्यांश के नीचे दिए गए प्रश्नों के अनुसार कीजिए -

_____ (1) अनमोल धन है। इसकी _____ (2) किसी से भी नहीं की जा सकती। हीरे _____ (3) या सोने-चाँदी से भी नहीं। सच्ची मित्रता में किसी कारण से _____ (4) नहीं आ सकता। बाइबिल में कहा गया है कि एक सच्चा मित्र विश्व की _____ (5) दवा है।

SubQuestion No : 22

Q.2
2 गद्यांश में संकेतित रिक्त स्थान (4) के लिए उपयुक्त शब्द होगा

- Ans
- 1. हस्तक्षेप
 - 2. व्यवधान
 - 3. अपरिहार्य
 - 4. दखल

Question ID : 9895803788
Chosen Option : 4

Comprehension:

निम्नलिखित गद्यांश के रिक्त स्थानों की पूर्ति गद्यांश के नीचे दिए गए प्रश्नों के अनुसार कीजिए -

_____ (1) अनमोल धन है। इसकी _____ (2) किसी से भी नहीं की जा सकती। हीरे _____ (3) या सोने-चाँदी से भी नहीं। सच्ची मित्रता में किसी कारण से _____ (4) नहीं आ सकता। बाइबिल में कहा गया है कि एक सच्चा मित्र विश्व की _____ (5) दवा है।

SubQuestion No : 23

Q.2
3 गद्यांश में संकेतित रिक्त स्थान (5) के लिए उपयुक्त शब्द होगा

- Ans
- 1. सर्वश्रेष्ठ
 - 2. हीन
 - 3. अधम
 - 4. साधारण

Question ID : 9895803789
Chosen Option : 1

Q.2
4 रिक्त स्थान को भरने के लिए उपयुक्त शब्द का चयन करें।

योद्धा ने बहादुरी के साथ _____ की।

- Ans
- 1. पढ़ाई
 - 2. लिखाई
 - 3. लड़ाई
 - 4. रुलाई

Question ID : 9895803781
Chosen Option : 3

Q.2 5 दिए गए वाक्य में रेखांकित खंड को प्रतिस्थापित करने के लिए उपयुक्त विकल्प का चयन करें।

जीवन अवसरों में एक धारा है।

Ans

1. अवसरों की एक धारा
 2. अवसरों पर धारा
 3. अवसरों का एक धारा
 4. अवसरों के एक धारा

Question ID : 9895803778
Chosen Option : 1

KD Job Updates

Constable (GD) in CAPFs, NIA, SSF and Rifleman (GD) in Assam Rifles Examination, 2018

Roll No. :	
Registration No.	
Name :	
Exam Venue :	
Exam Time :	4:00 PM - 5:30 PM
Exam Date :	13/02/2019

Section : General Section

Q.1 उस विकल्प का चयन करें जो दी गई श्रृंखला में प्रश्न चिह्न (?) के स्थान पर सही रूप में आएगा।

QLA, ONY, MPW, KRU, ?

- Ans
- 1. ITU
 - 2. ITS
 - 3. IST
 - 4. JTS

Question ID : 9895802801
Chosen Option : 2

Q.2 उस विकल्प का चयन करें जो दी गई श्रृंखला में प्रश्न चिह्न (?) के स्थान पर आएगा।

15, 19, 35, 71, ?

- Ans
- 1. 125
 - 2. 145
 - 3. 135
 - 4. 141

Question ID : 9895802815
Chosen Option : 2

Q.3 उस विकल्प का चयन करें जो तीसरे पद से उसी प्रकार से संबंधित है जिस प्रकार दूसरा पद पहले पद से संबंधित है।

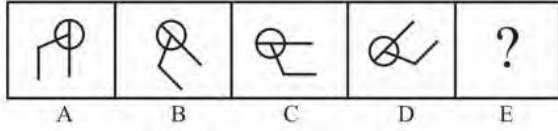
झगड़ा : युद्ध :: इच्छा : ?

- Ans
- 1. आकांक्षा
 - 2. दुखी
 - 3. पूछना
 - 4. डुबाना

Question ID : 9895802805
Chosen Option : 1

Q.4

विकल्पों में से उस आकृति का चयन करें जो दी गई श्रृंखला में अगले स्थान पर आएगी।



Ans

- 1.
- 2.
- 3.
- 4.

Question ID : 9895802820

Chosen Option : 3

Q.5 उस विकल्प का चयन करें जो तीसरे पद से उसी प्रकार से संबंधित है जिस प्रकार दूसरा पद पहले पद से संबंधित है।

DFH : IKM : EGI : ?

Ans

1. JLN
2. JLM
3. JLI
4. JIM

Question ID : 9895802806

Chosen Option : 1

Q.6 दिए गए विकल्पों में से असंगत का चयन करें।

Ans

1. विएना
2. बहरीन
3. कैनबेरा
4. काबुल

Question ID : 9895802803

Chosen Option : 1

Q.7 विकल्पों में से उस आकृति का चयन करें जिसमें 'X' से चिह्नित आकृति समाहित है। (घुमाने की अनुमति नहीं है)



Ans

✓ 1.



✗ 2.



✗ 3.



✗ 4.



Question ID : 9895802822

Chosen Option : 1

Q.8 दिए गए विकल्पों में से असंगत का चयन करें।

Ans

✗ 1. IET

✗ 2. SGH

✗ 3. HKO

✓ 4. SHT

Question ID : 9895802802

Chosen Option : 4

Q.9 एक निश्चित कूट भाषा में OOOLOGY को 89 के रूप में लिखा जाता है। उसी कूट भाषा में VIROLOGY को कैसे लिखा जाएगा?

Ans

✗ 1. 113

✗ 2. 89

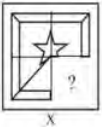
✗ 3. 97

✓ 4. 123

Question ID : 9895802808

Chosen Option : 4

Q.1 दिए गए चार विकल्पों में से उस आकृति को चुनें, जिसे आकृति X के रिक्त स्थान में (बिना घुमाए) रखने पर पैटर्न पूरा हो जाएगा।



Ans

✗ 1.



✗ 2.



✗ 3.



✓ 4.



Question ID : 9895802821
Chosen Option : 4

Q.1 नीचे दिए गए कथनों के बाद दो निष्कर्ष I और II दिए गए हैं। यह मानते हुए कि कथनों में दी गई जानकारी सत्य है, भले ही वह सर्वज्ञात तथ्यों से भिन्न प्रतीत होती हो और यह निर्णय करें कि कौन सा / से निष्कर्ष तार्किक और निश्चित रूप से कथन में दी गई जानकारी का अनुसरण करता है / करते हैं।

कथन:

- 1) सभी बकरियां कुत्ते हैं।
- 2) कुछ बकरियां गाय हैं।

निष्कर्ष:

- I. कुछ कुत्ते गाय हैं।
- II. कुछ गायें कुत्ता हैं।

Ans

1. न तो निष्कर्ष I न ही निष्कर्ष II अनुसरण करता है।
2. केवल निष्कर्ष I अनुसरण करता है।
3. केवल निष्कर्ष II अनुसरण करता है।
4. दोनों निष्कर्ष अनुसरण करते हैं।

Question ID : 9895802813
Chosen Option : 4

Q.1 पैटर्न के साथ एक वर्गाकार पारदर्शी कागज पत्रक दिया गया है। पारदर्शी कागज पत्रक को बिंदुकित रेखा पर मोड़े जाने पर पैटर्न कैसा दिखाई देगा?



Ans

- 1.
- 2.
- 3.
- 4.

Question ID : 9895802824
Chosen Option : 4

Q.1 उस विकल्प का चयन करें जो तीसरे पद से उसी प्रकार से संबंधित है जिस प्रकार दूसरा पद पहले पद से संबंधित है।

3

कल्पना : अनुमान :: शांत : ?

Ans

1. घोषणा करना
2. घमंड

3. शांति
4. गंभीर

Question ID : 9895802804
Chosen Option : 4

Q.1
4 पुस्तकालय में केवल एक शब्दकोष है जिसका उपयोग लाइब्रेरी में केवल एक ही शब्दकोष है जिसका उपयोग 6 छात्रों P, Q, R, S, T और U द्वारा एक-एक करके किया जाएगा। S, Q के तुरंत बाद और P के पहले इसका उपयोग करेगा और T, R के तुरंत बाद और U से पहले इसका उपयोग करेगा। R, P के बाद शब्दकोश का उपयोग करेगा। अंत में शब्दकोश का उपयोग कौन करेगा?

- Ans
1. T
2. Q
3. U
4. P

Question ID : 9895802811
Chosen Option : 3

Q.1
5 उस विकल्प का चयन करें जो दर्पण के दायीं ओर रखे जाने पर दिए गए शब्द की दर्पण छवि से सर्वाधिक मेल खाता है।

QUENCH

- Ans
1. QUENCH
2. QUENCH
3. QUENCH
4. QUENCH

Question ID : 9895802823
Chosen Option : 1

Q.1
6 नीचे दिए गए कथनों के बाद दो निष्कर्ष I और II दिए गए हैं। यह मानते हुए कि कथनों में दी गई जानकारी सत्य है, भले ही वह सर्वज्ञात तथ्यों से भिन्न प्रतीत होती हो और यह निर्णय करें कि कौन सा / से निष्कर्ष तार्किक और निश्चित रूप से कथन में दी गई जानकारी का अनुसरण करता है / करते हैं।

कथन:

- 1) सभी पक्षी प्याले हैं।
- 2) कुछ प्याले बिल्लियों हैं।

निष्कर्ष:

- I. सभी पक्षी बिल्लियों हैं।
- II. कुछ प्याले पक्षी हैं।

- Ans
1. या तो निष्कर्ष I या निष्कर्ष II अनुसरण करता है।
2. केवल निष्कर्ष I अनुसरण करता है।

3. केवल निष्कर्ष II अनुसरण करता है।

4. दोनों निष्कर्ष अनुसरण करते हैं।

Question ID : 9895802812
Chosen Option : 1

Q.1 उस विकल्प का चयन करें जो दी गई श्रृंखला में प्रश्न चिह्न (?) के स्थान पर आएगा।

7, 18, 40, 73, ?

Ans 1. 127

2. 107

3. 115

4. 117

Question ID : 9895802814
Chosen Option : 4

Q.1 एक निश्चित कूट भाषा में CONCOLOGY को YGOLOCNOC के रूप में लिखा जाता है। उसी कूट भाषा में PALAEOGRAPHY को कैसे लिखा जाएगा?

Ans 1. YHPARGEOALAP

2. YHPARGOAEALAP

3. YHPRAGOEALAP

4. YHPARGOAEALAP

Question ID : 9895802807
Chosen Option : 4

Q.1 उस विकल्प का चयन करें जो दिए गए पैटर्न में प्रश्न चिह्न (?) के स्थान पर आएगा।

4	7	6
5	?	8
41	85	100

Ans 1. 11

2. 9

3. 6

4. 13

Question ID : 9895802818
Chosen Option : 3

Q.2 आठ मित्र A, B, C, D, E, F, G और H एक गोलाकार मेज़ के चारों ओर एक-दूसरे के तरफ मुंह करके भोजन कर रहे हैं। A, F के सामने और B के दाएँ ओर से तीसरे स्थान पर है। G, F और D के बीच में है। H, D के बाएँ ओर है। E, C और A के बीच में है। A के दाएँ ओर से तीसरे स्थान पर कौन बैठा है?

Ans 1. G

2. B

3. D

4. C

Question ID : 9895802810

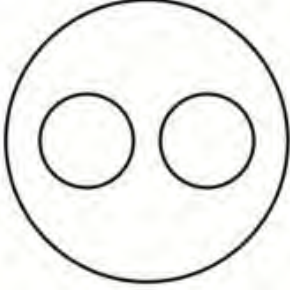
Chosen Option : 1

Q.2 उस वेन आरेख का चयन करें जो दिए गए वर्गों को सर्वोत्तम ढंग से दर्शाता है।

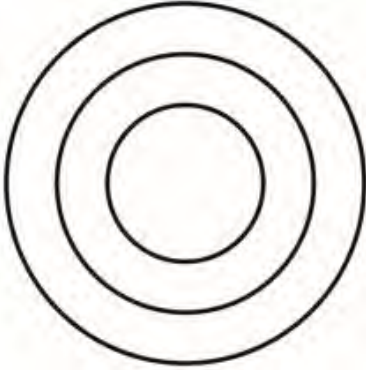
भारत, विशाखापत्तनम, आंध्र प्रदेश

Ans

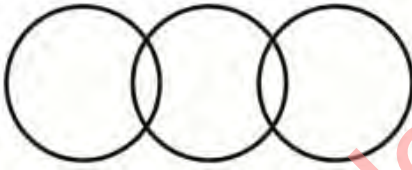
1.



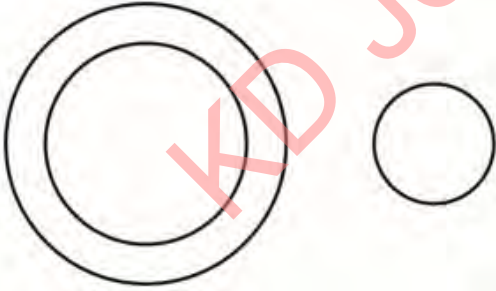
2.



3.



4.



Question ID : 9895802825

Chosen Option : 2

Q.2 सात मित्र O, P, Q, R, S, T और U एक पंक्ति में बैठ कर फिल्म देख रहे हैं। S एक छोर पर बैठा है। Q, S के दाएँ ओर से दूसरे स्थान पर बैठा है। P, O और Q के बीच में बैठा है। U किसी भी छोर पर नहीं बैठा है। R, T के बाएँ ओर बैठा है। P के ठीक दाएँ ओर कौन बैठा है?

Ans

1. R

2. Q

3. U

4. O

Question ID : 9895802809

Chosen Option : 4

Q.2

3 दिए गए विकल्पों में से असंगत संख्या का चयन करें।

- Ans 1. 566
 2. 276
 3. 357
 4. 519

Question ID : 9895802817
 Chosen Option : 3

Q.2 निम्नलिखित समीकरण को सही करने के लिए विकल्पों में दिए गए किन दो चिहनों को परस्पर बदला जाना चाहिए?

4 $24 + 2 \times 2 - 6 + 3 = 22$

- Ans 1. + और ×
 2. - और ÷
 3. + और -
 4. × और ÷

Question ID : 9895802819
 Chosen Option : 1

Q.2 उस विकल्प का चयन करें जो दी गई तीसरी संख्या से उसी प्रकार से संबंधित है जिस प्रकार दूसरी संख्या पहली संख्या से संबंधित है।

5 $19: 441 :: 17: ?$

- Ans 1. 361
 2. 144
 3. 225
 4. 169

Question ID : 9895802816
 Chosen Option : 1

Q.2 राज्य नीति के निर्देशक सिद्धांतों के विचार को भारतीय संविधान ने किस देश से अपनाया था?

- Ans 1. दक्षिण अफ्रीका
 2. जर्मनी
 3. ब्रिटेन
 4. आयरलैंड

Question ID : 9895802851
 Chosen Option : 4

Q.2 निम्नलिखित में से कौन प्रोटीन का एक प्रमुख स्रोत नहीं है?

- Ans 1. सोयाबीन
 2. गेहूँ
 3. मछली
 4. चना

Question ID : 9895802858

Chosen Option : 2

Q.2
8 'स्वराज यह मेरा जन्मसिद्ध अधिकार है और मैं इसे लेकर ही रहूँगा' यह नारा निम्नलिखित में से किसने दिया था?

- Ans
- 1. बाल गंगाधर तिलक
 - 2. दादा भाई नौरोजी
 - 3. चित्तरंजन दास
 - 4. गोपाल कृष्ण गोखले

Question ID : 9895802875
Chosen Option : 1

Q.2
9 भारतीय संविधान के निम्नलिखित अनुच्छेदों में से कौन सा भारत के राष्ट्रपति को राष्ट्रीय आपातकाल घोषित करने की सत्ता प्रदान करता है?

- Ans
- 1. अनुच्छेद 371
 - 2. अनुच्छेद 372
 - 3. अनुच्छेद 356
 - 4. अनुच्छेद 352

Question ID : 9895802852
Chosen Option : 4

Q.3
0 'द गॉड ऑफ स्मॉल थिंग्स' उपन्यास किस देश से प्रेरित है?

- Ans
- 1. भारत
 - 2. बांग्लादेश
 - 3. चीन
 - 4. नेपाल

Question ID : 9895802865
Chosen Option : 1

Q.3
1 तटीय ओडिशा का प्राचीन नाम क्या था?

- Ans
- 1. कौशाम्बी
 - 2. कलिंग
 - 3. कामरूप
 - 4. खानदेश

Question ID : 9895802874
Chosen Option : 2

Q.3
2 राज्य सभा का पदेन अध्यक्ष कौन होता है?

- Ans
- 1. भारत के उपराष्ट्रपति
 - 2. सभापति
 - 3. प्रधान मंत्री

4. राज्यसभा में विपक्ष के नेता

Question ID : 9895802853
Chosen Option : 1

Q.3
3 'कैलाश पर्वत को हिलाते हुए रावण' नामक लोकप्रिय चित्रण निम्न में से किस गुफा में चित्रित किया गया है?

- Ans
- 1. कान्हेरी
 - 2. एलोरा
 - 3. अजंता
 - 4. हातीगुंफा

Question ID : 9895802868
Chosen Option : 3

Q.3
4 भारत के निम्नलिखित में से किस राज्य में संग्रै त्थोहार मनाया जाता है?

- Ans
- 1. मणिपुर
 - 2. नागालैंड
 - 3. अरुणाचल प्रदेश
 - 4. मेघालय

Question ID : 9895802869
Chosen Option : 3

Q.3
5 भारत में राष्ट्रीय खेल दिवस कौन से दिन मनाया जाता है?

- Ans
- 1. अगस्त 29
 - 2. अगस्त 27
 - 3. अगस्त 26
 - 4. अगस्त 28

Question ID : 9895802863
Chosen Option : 4

Q.3
6 आम टीवी रिमोट कंट्रोल द्वारा निम्न में से किस तरंग का उपयोग किया जाता है?

- Ans
- 1. अल्ट्रासोनिक तरंगें
 - 2. इन्फ्रारेड तरंगें
 - 3. लेजर
 - 4. रेडियो तरंगें

Question ID : 9895802860
Chosen Option : 2

Q.3
7 केंद्रीय बजट 2018 के अनुसार, ऑपरेशन ग्रीन के लिए कितनी राशि आवंटित की गई थी?

- Ans
- 1. 600 करोड़
 - 2. 400 करोड़

3. 700 करोड़

4. 500 करोड़

Question ID : 9895802855
Chosen Option : 2

Q.3 निम्नलिखित में से कौन सा मंत्रालय हर साल संसद में आर्थिक सर्वेक्षण प्रस्तुत करता है?

Ans 1. वाणिज्य

2. वित्त

3. गृह कार्य

4. कॉर्पोरेट कार्य

Question ID : 9895802854
Chosen Option : 2

Q.3 निम्नलिखित में से कौन सा कथन "स्थानिक प्रजातियों" प्रका वर्णन करता है?

Ans 1.

कम आबादी वाली प्रजातियाँ लुप्तप्राय प्रजातियों की श्रेणी में जा सकती हैं।

2. प्रजातियाँ जो गहन खोजों के बाद मौजूदा नहीं पाई गईं।

3. प्रजातियाँ जो केवल कुछ विशेष क्षेत्रों में पाई जाती हैं।

4. प्रजातियाँ जो विदेशों से आई हैं।

Question ID : 9895802872
Chosen Option : 3

Q.4 भारत का प्रायद्वीपीय पठार निम्नलिखित में से किस भूभाग का हिस्सा है?

Ans 1. लारेशिया

2. एंडीयन

3. टेथिस

4. गोंडवाना भूमि

Question ID : 9895802871
Chosen Option : 4

Q.4 पाठ 'चरक संहिता' ग्रन्थ के अनुसार मानव शरीर में कितनी हड्डियाँ होती हैं?

Ans 1. 208

2. 370

3. 360

4. 206

Question ID : 9895802873
Chosen Option : 2

Q.4 प्रोटीन की उपस्थिति का परीक्षण करने के लिए निम्नलिखित में से कौन सा घोल आवश्यक है?

2

- Ans
- 1. आयोडीन घोल
 - 2. कॉपर सल्फेट और आयोडीन घोल
 - 3. आयोडीन और कास्टिक सोडा घोल
 - 4. कॉपर सल्फेट और कास्टिक सोडा घोल

Question ID : 9895802857
Chosen Option : 3

Q.4
3 तंजौर में बृहदेश्वर मंदिर किस धार्मिक संप्रदाय से संबंधित है?

- Ans
- 1. नायनमार
 - 2. आलवार
 - 3. शाक्त
 - 4. वैदिक

Question ID : 9895802867
Chosen Option : 1

Q.4
4 एलिमेंट्री कैनाल (आहार मार्ग) के अंगों द्वारा स्रावित कौन सा रस वसा के पाचन में महत्वपूर्ण भूमिका निभाता है?

- Ans
- 1. लार, हाइड्रोक्लोरिक अम्ल
 - 2. हाइड्रोक्लोरिक अम्ल, बलगम
 - 3. पित्त रस, अग्नाशयी रस
 - 4. अग्नाशयी रस, लार

Question ID : 9895802861
Chosen Option : 4

Q.4
5 निम्नलिखित में से कौन से शब्द का प्रयोग बैंकिंग क्षेत्र में नहीं होता है?

- Ans
- 1. व्याज दर अदला बदली (इंटररेस्ट रेट स्वेप)
 - 2. शून्यकाल (ज़ीरो आवर)
 - 3. संपार्श्विक (कोलेटरल)
 - 4. रेपो दर (रेपो रेट)

Question ID : 9895802856
Chosen Option : 2

Q.4
6 निम्नलिखित में से किस जलीय जीव में गलफड़े (गिल्स) नहीं होते?

- Ans
- 1. ऑक्टोपस
 - 2. क्लाउनफिश
 - 3. स्क्विड
 - 4. व्हेल

Question ID : 9895802859
Chosen Option : 4

Q.4
7 निम्नलिखित में से कौन सा दिन "मानव अधिकार दिवस" के रूप में मनाया जाता है?

- Ans
- 1. फरवरी 10
 - 2. नवम्बर 10
 - 3. जनवरी 10
 - 4. दिसंबर 10

Question ID : 9895802866
Chosen Option : 4

Q.4
8 निम्नलिखित नदियों में से किसे "दक्षिण गंगा" भी कहा जाता है?

- Ans
- 1. पेरियार
 - 2. कावेरी
 - 3. कृष्णा
 - 4. गोदावरी

Question ID : 9895802870
Chosen Option : 4

Q.4
9 "द लॉग वोक टू फ्रीडम" निम्नलिखित में से किसकी आत्मकथा है?

- Ans
- 1. मार्टिन लूथर किंग
 - 2. नेल्सन मंडेला
 - 3. अब्राहम लिंकन
 - 4. जॉहन एफ. कैनेडी

Question ID : 9895802864
Chosen Option : 2

Q.5
0 मैग्नस कार्लसन निम्नलिखित में से किस खेल के लिए प्रसिद्ध है?

- Ans
- 1. शतरंज
 - 2. फुटबॉल
 - 3. कैरम
 - 4. टेनिस

Question ID : 9895802862
Chosen Option : 1

Q.5
1

नीचे दिए गए डेटा अलग-अलग अंक प्राप्त करने वाले कक्षा A तथा

B के छात्रों की संख्या दर्शाता है।

अंक	कक्षा A के छात्र	कक्षा B के छात्र
0-2	3	2
2-4	4	1
4-6	1	3
6-8	1	1
8-10	1	1
10-12	0	2

A तथा B का संयुक्त माध्य क्या है?

- Ans
1. 4
2. 4.7
3. 3.5
4. 3.75

Question ID : 9895804598

Chosen Option : 3

Q.5 एक निश्चित राशि पर 15% की वार्षिक दर से तीन वर्षों का साधारण ब्याज ₹ 9000 है। यदि ब्याज की दर 30% हो जाए, तो दो वर्षों का साधारण ब्याज क्या होगा?

- Ans
1. ₹ 4500
2. ₹ 9000
3. ₹ 12000
4. ₹ 27000

Question ID : 9895804605

Chosen Option : 3

Q.5 एक कक्षा में कुल 70 छात्र हैं। 26 लड़कियों का औसत वजन 28 कि.ग्रा. है तथा बचे हुए विद्यार्थियों का औसत वजन 35 कि.ग्रा है। सभी 70 विद्यार्थियों का औसत वजन (कि.ग्रा में) क्या होगा?

- Ans
1. 36.8 कि.ग्रा.
2. 35.2 कि.ग्रा.
3. 32.4 कि.ग्रा.
4. 34.6 कि.ग्रा.

Question ID : 9895804595

Chosen Option : 3

Q.5 एक आयताकार मेज का परिमाप 60 से.मी. है। यदि आयताकार मेज का क्षेत्रफल 209 से.मी.² है, तो मेज की लंबाई क्या होगी?

- Ans
1. 21 से.मी.
2. 17 से.मी.
3. 19 से.मी.
4. 13 से.मी.

Question ID : 9895804612

Chosen Option : 1

Q.5 दो वस्तुओं का मूल्य क्रमशः 5 : 6 के अनुपात में है। पहली वस्तु का मूल्य 30% बढ़ाया जाता है तथा दूसरी वस्तु का मूल्य X% घटाया जाता है। यदि नया अनुपात क्रमशः 13 : 11 है, तो X का मान क्या है?

- Ans
- 1. 11.11
 - 2. 8.33
 - 3. 12.5
 - 4. 9.09

Question ID : 9895804604
Chosen Option : 3

Q.5 U, V तथा W क्रमशः 15 : 20 : 27 के अनुपात में निवेश करते हैं। यदि वर्ष के अंत में वे कुल ₹ 10230 का लाभ कमाते हैं, तो लाभ में V का हिस्सा क्या है?

- Ans
- 1. ₹ 3300
 - 2. ₹ 3500
 - 3. ₹ 2870
 - 4. ₹ 3150

Question ID : 9895804602
Chosen Option : 2

Q.5 एक वस्तु का अंकित मूल्य उसके क्रय मूल्य से 70% अधिक है। 10% की छूट देने के पश्चात् वस्तु ₹ 1071 की बेची गई है। वस्तु का क्रय मूल्य क्या होगा?

- Ans
- 1. ₹ 530
 - 2. ₹ 620
 - 3. ₹ 700
 - 4. ₹ 590

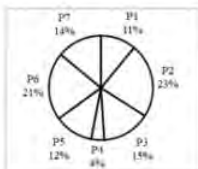
Question ID : 9895804597
Chosen Option : 3

Q.5 $2^2 \times 3^5 \times 7^3$ तथा $2^4 \times 3^4 \times 7^1$ का लघुत्तम समापवर्त्य क्या होगा?

- Ans
- 1. $2^4 \times 3^6 \times 7^4$
 - 2. $2^6 \times 3^9 \times 7^4$
 - 3. $2^4 \times 3^5 \times 7^3$
 - 4. $2^2 \times 3^4 \times 7^1$

Question ID : 9895804592
Chosen Option : 3

Q.5 नीचे दिया गया पाई चार्ट एक देश के लिए 7 विभिन्न वस्तुओं P1, P2, P3, P4, P5, P6 तथा P7 के आयात को कुल आयात के प्रतिशत के रूप में दर्शाता है।



आइटम P6 का आयात आइटम P5 के आयात से कितना प्रतिशत अधिक है?

Ans

1. 75%
2. 80%
3. 33%
4. 9%

Question ID : 9895804614
Chosen Option : 1

Q.6
0 $512 \div 16 + 4 \times \frac{5}{2}$ का $\left(\frac{1}{8} + \frac{1}{3}\right)$ का मान क्या है?

- Ans
1. $\frac{443}{12}$
2. $\frac{455}{12}$
3. $\frac{439}{12}$
4. $\frac{449}{12}$

Question ID : 9895804593
Chosen Option : 2

Q.6 एक परिवार का औसत मासिक व्यय प्रथम 2 महीने के लिए ₹ 8160 है, अगले 5 महीने के लिए ₹ 12780 है तथा
1 अगले 5 महीने के लिए ₹ 14280 है। यदि परिवार पूरे वर्ष में ₹ 66300 बचाता है, तो परिवार की औसत मासिक आय क्या होगी?

- Ans
1. ₹ 18160
2. ₹ 18260
3. ₹ 18000
4. ₹ 18100

Question ID : 9895804596
Chosen Option : 2

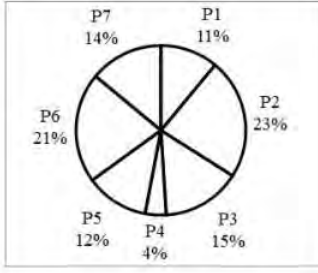
Q.6 रवि और मनोज के बीच हुए एक चुनाव में रवि को कुल मान्य मतों के 61% मिलते हैं। यदि कुल मत 25000 थे
2 तथा कुल मतों के 20% को अमान्य घोषित किया गया है, तो दूसरे उम्मीदवार मनोज को कितने मत मिलेंगे?

- Ans
1. 8025
2. 9750
3. 8200
4. 7800

Question ID : 9895804599
Chosen Option : 4

Q.6
3

नीचे दिया गया पाई चार्ट एक देश के लिए 7 विभिन्न वस्तुओं P1, P2, P3, P4, P5, P6 तथा P7 के आयात को कुल आयात के प्रतिशत के रूप में दर्शाता है।



यदि आइटम P1 के कुल आयात ₹ 33000 है, तो आइटम P2 के आयात का मान क्या है?

- Ans
- 1. 46000
 - 2. 69000
 - 3. 80500
 - 4. 57500

Question ID : 9895804615

Chosen Option : 2

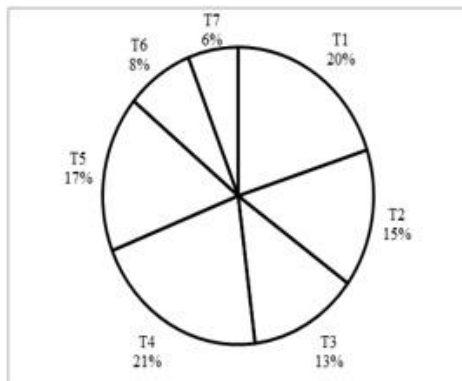
Q.6 मोहन 187 कि.मी. की एक दूरी को S कि.मी./घंटा की गति से तय करता है। यदि मोहन अपनी गति को 6 कि.मी./घंटा से बढ़ा देता है, तो वह 6 घंटे कम लेता है। S का मान क्या है?

- Ans
- 1. 13 कि.मी./घंटा
 - 2. 11 कि.मी./घंटा
 - 3. 12 कि.मी./घंटा
 - 4. 14 कि.मी./घंटा

Question ID : 9895804609

Chosen Option : 1

Q.6
5 नीचे दिया गया पाई चार्ट किसी शहर में एक वर्ष के लिए विभिन्न प्रकार की कारों की बिक्री दर्शाता है। शहर में कारों की कुल बिक्री 600000 है।



दिए गए वर्ष में शहर में कितनी T4 कारों की बिक्री हुई है?

- Ans
- 1. 126000

2. 138000

3. 144000

4. 128000

Question ID : 9895804616
Chosen Option : 1

Q.6
6 $1040 \div 65 - 8 \times \frac{1}{2}$ का $\left(\frac{1}{2} - \frac{1}{3}\right)$ का मान क्या है?

Ans 1. $\frac{50}{3}$

2. $\frac{49}{3}$

3. $\frac{46}{3}$

4. $\frac{44}{3}$

Question ID : 9895804594
Chosen Option : 3

Q.6
7 दो वृत्तों की त्रिज्याएँ 15 से.मी. तथा 8 से.मी. हैं। यदि एक तीसरे वृत्त का क्षेत्रफल दोनों वृत्तों के क्षेत्रफल के योग के बराबर है, तो तीसरे वृत्त की त्रिज्या क्या होगी?

Ans 1. 23 से.मी.

2. 17 से.मी.

3. 21 से.मी.

4. 19 से.मी.

Question ID : 9895804613
Chosen Option : 2

Q.6
8 यदि C अकेला एक कार्य का दो-तिहाई 12 दिन में पूरा कर सकता है, तो C संपूर्ण कार्य को कितने दिन में पूरा कर सकता है?

Ans 1. 15 दिन

2. 24 दिन

3. 18 दिन

4. 8 दिन

Question ID : 9895804608
Chosen Option : 3

Q.6
9 यदि एक वस्तु का क्रय मूल्य ₹ 928 है तथा लाभ 15% है, तो कुल लाभ क्या होगा?

Ans 1. ₹ 154.50

2. ₹ 212

3. ₹ 139.20

4. ₹ 168.40

Question ID : 9895804601
Chosen Option : 3

Q.7 P, Q को एक वस्तु 5% हानि पर बेचता है तथा Q, R को वह वस्तु 20% हानि पर बेचता है। यदि R वस्तु के लिए ₹ 2812 चुकाता है, तो P के लिए क्रय मूल्य क्या था?

- Ans
- 1. ₹ 3750
 - 2. ₹ 3515
 - 3. ₹ 3250
 - 4. ₹ 3700

Question ID : 9895804600

Chosen Option : 1

Q.7 1 एक राशि पर पाँचवें वर्ष का चक्रवृद्धि ब्याज ₹ 7800 है तथा छठे वर्ष का चक्रवृद्धि ब्याज ₹ 9048 है (ब्याज का संयोजन वार्षिक किया गया है)। ब्याज दर क्या है?

- Ans
- 1. 14%
 - 2. 12%
 - 3. 16%
 - 4. 15%

Question ID : 9895804606

Chosen Option : 3

Q.7 2 किसी आयत की लंबाई तथा चौड़ाई 16 से.मी. तथा 12 से.मी. है। आयत का क्षेत्रफल क्या होगा?

- Ans
- 1. 192 से.मी.²
 - 2. 212 से.मी.²
 - 3. 144 से.मी.²
 - 4. 176 से.मी.²

Question ID : 9895804611

Chosen Option : 1

Q.7 3 यदि $1/A : 1/B : 1/C = 2 : 3 : 4$ है, तो $A : B : C$ का अनुपात क्या होगा?

- Ans
- 1. 4 : 3 : 6
 - 2. 3 : 6 : 4
 - 3. 6 : 4 : 3
 - 4. 12 : 6 : 8

Question ID : 9895804603

Chosen Option : 4

Q.7 4 M एक कार्य को L द्वारा लिए गए समय से 14 दिन कम में पूरा कर सकता है। यदि M तथा L दोनों मिलकर समान कार्य को 24 दिन में पूरा कर सकते हैं, तो M अकेला समान कार्य को कितने दिन में पूरा कर सकता है?

- Ans
- 1. 42 दिन
 - 2. 21 दिन
 - 3. 56 दिन
 - 4. 35 दिन

Question ID : 9895804607

Chosen Option : 1

Q.7 एक 250 मीटर लम्बी रेलगाड़ी एक 350 मीटर लम्बे पुल को पार करने में 30 सेकण्ड लेती है। एक 550 मीटर लम्बे पुल को पार करने में रेलगाड़ी कितना समय लेगी?

- Ans
- 1. 42 सेकण्ड
 - 2. 38 सेकण्ड
 - 3. 35 सेकण्ड
 - 4. 40 सेकण्ड

Question ID : 9895804610
Chosen Option : 2

Section : English Language

Comprehension:

In the following passage some words have been deleted. Fill in the blanks with the help of the alternatives given. Select the most appropriate option for each number.

The most common act of forgetfulness, I suppose (1) _____ in the matter of posting letters. So common is it that I am always (2) _____ to trust a departing visitor to post an important (3) _____. So before handing over the letter I make him (4) _____ to post it immediately. As for myself, anyone (5) _____ asks me to post a letter is a poor judge of my character.

SubQuestion No : 1

Q.1 Fill in blank (1) with the most appropriate option.

- Ans
- 1. takes
 - 2. creates
 - 3. develops
 - 4. occurs

Question ID : 9895804431
Chosen Option : --

Comprehension:

In the following passage some words have been deleted. Fill in the blanks with the help of the alternatives given. Select the most appropriate option for each number.

The most common act of forgetfulness, I suppose (1) _____ in the matter of posting letters. So common is it that I am always (2) _____ to trust a departing visitor to post an important (3) _____. So before handing over the letter I make him (4) _____ to post it immediately. As for myself, anyone (5) _____ asks me to post a letter is a poor judge of my character.

SubQuestion No : 2

Q.2 Fill in blank (2) with the most appropriate option.

- Ans
- 1. reluctant
 - 2. willing

3. indifferent

4. frightened

Question ID : 9895804432

Chosen Option : --

Comprehension:

In the following passage some words have been deleted. Fill in the blanks with the help of the alternatives given. Select the most appropriate option for each number.

The most common act of forgetfulness, I suppose (1) _____ in the matter of posting letters. So common is it that I am always (2) _____ to trust a departing visitor to post an important (3) _____. So before handing over the letter I make him (4) _____ to post it immediately. As for myself, anyone (5) _____ asks me to post a letter is a poor judge of my character.

SubQuestion No : 3

Q.3 Fill in blank (3) with the most appropriate option.

Ans 1. parcel

2. mail

3. message

4. letter

Question ID : 9895804433

Chosen Option : --

Comprehension:

In the following passage some words have been deleted. Fill in the blanks with the help of the alternatives given. Select the most appropriate option for each number.

The most common act of forgetfulness, I suppose (1) _____ in the matter of posting letters. So common is it that I am always (2) _____ to trust a departing visitor to post an important (3) _____. So before handing over the letter I make him (4) _____ to post it immediately. As for myself, anyone (5) _____ asks me to post a letter is a poor judge of my character.

SubQuestion No : 4

Q.4 Fill in blank (4) with the most appropriate option.

Ans 1. assure

2. promise

3. pledge

4. ready

Question ID : 9895804434

Chosen Option : --

Comprehension:

In the following passage some words have been deleted. Fill in the blanks with the help of the alternatives given. Select the most appropriate option for each number.

The most common act of forgetfulness, I suppose (1) _____ in the matter of posting letters. So common is it that I am always (2) _____ to trust a departing visitor to post an important (3) _____. So before handing over the letter I make him (4) _____ to post it immediately. As for myself, anyone (5) _____ asks me to post a letter is a poor judge of my character.

SubQuestion No : 5

Q.5 Fill in blank (5) with the most appropriate option.

- Ans
- 1. which
 - 2. who
 - 3. that
 - 4. whom

Question ID : 9895804435

Chosen Option : --

Q.6 Select the most appropriate word to fill in the blank.

We need a _____ leader for the nation in these troubled times.

- Ans
- 1. hard-core
 - 2. gifted
 - 3. dynamic
 - 4. sturdy

Question ID : 9895804420

Chosen Option : --

Q.7 Select the most appropriate word to fill in the blank.

If you kill us, the Emperor can attack your kingdom on the _____ of avenging our death.

- Ans
- 1. pretext
 - 2. guise
 - 3. pretense
 - 4. excuse

Question ID : 9895804421

Chosen Option : --

Q.8 Select the correctly spelt word.

- Ans
- 1. Begining
 - 2. Bigining
 - 3. Beginning
 - 4. Begginning

Question ID : 9895804417

Chosen Option : --

Q.9 Fill in the blanks with the most appropriate words.

Switch off the air conditioner _____ you will catch a cold.

- Ans
- 1. and
 - 2. but
 - 3. or
 - 4. so

Question ID : 9895804426

Chosen Option : --

Q.1 Select the most appropriate synonym of the given word.

GULLIBLE

- Ans
- 1. Innocent
 - 2. Perceptive
 - 3. Knowledgeable
 - 4. Credulous

Question ID : 9895804411

Chosen Option : --

Q.1 Identify the segment in the sentence which contains the grammatical error from the given options.

1

Even though I took a taxi, the train left before I reached the station.

- Ans
- 1. Even though
 - 2. the train left
 - 3. took a taxi
 - 4. I reached

Question ID : 9895804422

Chosen Option : --

Q.1 Fill in the blanks with the most appropriate words.

2

She has been reduced _____ a skeleton due to her illness.

- Ans
- 1. with
 - 2. for
 - 3. in
 - 4. to

Question ID : 9895804425

Chosen Option : --

Q.1 Select the word which means the same as the group of words given.

3

Originating or occurring naturally in the place or country where found.

- Ans
- 1. Ingenious

2. Indigenous

3. Ordinary

4. National

Question ID : 9895804418

Chosen Option : --

Q.1
4 Select the correctly spelt word.

Ans 1. Attendance

2. Attendance

3. Attendance

4. Attandance

Question ID : 9895804416

Chosen Option : --

Q.1
5 Select the most appropriate option to substitute the underlined segment in the given sentence. If there is no need to substitute it, select No improvement.

There is no reason why you should remain tense when I was promising to help you.

Ans 1. No improvement.

2. I promising to help you

3. I have promised to help you

4. I promised helping you

Question ID : 9895804427

Chosen Option : --

Q.1
6 Identify the segment in the sentence which contains the grammatical error from the given options.

May I have your permission leaving the office a little early today?

Ans 1. leaving

2. May I have

3. early today

4. a little

Question ID : 9895804424

Chosen Option : --

Q.1
7 Select the most appropriate antonym of the given word.

ABSURD

Ans 1. sensible

2. guilty

3. sincere

4. ridiculous

Question ID : 9895804413

Chosen Option : --

Q.1

8 Select the most appropriate option to substitute the underlined segment in the given sentence. If there is no need to substitute it, select No improvement.

Most of us fail to understand the objective of his frequent visits to this part of the country.

- Ans 1. to understanding the objective of
2. No improvement.
3. to understand the objectives to
4. to understand the object of

Question ID : 9895804428
Chosen Option : --

Q.1
9 Select the most appropriate meaning of the given idiom.

At one's wits end

- Ans 1. Without aim or purpose
2. To take note of something
3. Not knowing what to do
4. To disagree with something

Question ID : 9895804414
Chosen Option : --

Q.2
0 Select the most appropriate synonym of the given word.

ELABORATE

- Ans 1. Appropriate
2. Detailed
3. Elongated
4. Sketchy

Question ID : 9895804410
Chosen Option : --

Q.2
1 Select the most appropriate antonym of the given word.

ABUNDANT

- Ans 1. plentiful
2. scarce
3. sufficient
4. adequate

Question ID : 9895804412
Chosen Option : --

Q.2
2 Identify the segment in the sentence which contains the grammatical error from the given options.

We would be very pleased if you could come to my house.

- Ans 1. would be
2. if you

3. come to
 4. my house

Question ID : 9895804423
 Chosen Option : --

Q.2
3 Select the most appropriate meaning of the given idiom.

Hale and hearty.

- Ans 1. Friendly
 2. Superior
 3. Healthy
 4. Happy

Question ID : 9895804415
 Chosen Option : --

Q.2
4 Select the word which means the same as the group of words given.

One who collects stamps

- Ans 1. Philanthropist
 2. Plagiarist
 3. Numismatist
 4. Philatelist

Question ID : 9895804419
 Chosen Option : --

Q.2
5 Select the most appropriate option to substitute the underlined segment in the given sentence. If there is no need to substitute it, select No improvement.

The state government has announced that it was giving financial helps to the economically weaker sections of society.

- Ans 1. Gives financial helps
 2. will give financial helps
 3. No improvement.
 4. will give financial help

Question ID : 9895804429
 Chosen Option : --

Section : Hindi Language

Q.1 दिए गए शब्द का विलोम चुनें।

अज्ञ

- Ans 1. विज्ञ
 2. आस्था
 3. आज्ञा
 4. अनुज्ञ

Question ID : 9895803917
Chosen Option : 1

Q.2 सही वर्तनी वाले शब्द का चयन करें।

- Ans
- 1. प्रियदरसी
 - 2. प्रियदर्षी
 - 3. प्रियदर्शि
 - 4. प्रियदर्शी

Question ID : 9895803924
Chosen Option : 4

Q.3 सही वर्तनी वाले शब्द का चयन करें।

- Ans
- 1. तटष्ठ
 - 2. तटस्थ
 - 3. टतस्थ
 - 4. ततष्ठ

Question ID : 9895803925
Chosen Option : 2

Q.4 दिए गए शब्द का विलोम चुनें।

स्थूल

- Ans
- 1. स्थिर
 - 2. अस्थिर
 - 3. अग्रज
 - 4. सूक्ष्म

Question ID : 9895803916
Chosen Option : 4

Q.5 दिए गए वाक्य का वह भाग ज्ञात करें जिसमें कोई त्रुटि है।

जिसके जैसी संस्कार होंगे वैसी ही उसकी भाषा होगी।

- Ans
- 1. वैसी ही उसकी
 - 2. भाषा होगी।
 - 3. जिसके जैसी
 - 4. संस्कार होंगे

Question ID : 9895803901
Chosen Option : 3

Comprehension:

निम्नलिखित गद्यांश के रिक्त स्थानों की पूर्ति गद्यांश के नीचे दिए गए प्रश्नों के अनुसार कीजिए -

संसार के सभी _____ (1) करुणा के सागर थे। गौतम बुद्ध ने राजपाट और सांसारिकता को _____ (2) ही महानता को प्राप्त किया। गांधीजी ने वकालत छोड़कर देश को _____ (3) कराने के लिए लड़ाई छेड़ दी। ईसा मसीह ने _____ (4) में अपने _____ (5) की आहुति दी।

SubQuestion No : 6

Q.6 गद्यांश में संकेतित रिक्त स्थान (1) के लिए उपयुक्त शब्द होगा

- Ans
- 1. नेता
 - 2. महापुरुष
 - 3. राजा
 - 4. विद्वान

Question ID : 9895803911
Chosen Option : 2

Comprehension:

निम्नलिखित गद्यांश के रिक्त स्थानों की पूर्ति गद्यांश के नीचे दिए गए प्रश्नों के अनुसार कीजिए -

संसार के सभी _____ (1) करुणा के सागर थे। गौतम बुद्ध ने राजपाट और सांसारिकता को _____ (2) ही महानता को प्राप्त किया। गांधीजी ने वकालत छोड़कर देश को _____ (3) कराने के लिए लड़ाई छेड़ दी। ईसा मसीह ने _____ (4) में अपने _____ (5) की आहुति दी।

SubQuestion No : 7

Q.7 गद्यांश में संकेतित रिक्त स्थान (2) के लिए उपयुक्त शब्द होगा

- Ans
- 1. देकर
 - 2. भूलकर

3. त्याग कर

4. लेकर

Question ID : 9895803912

Chosen Option : 3

Comprehension:

निम्नलिखित गद्यांश के रिक्त स्थानों की पूर्ति गद्यांश के नीचे दिए गए प्रश्नों के अनुसार कीजिए -

संसार के सभी _____ (1) करुणा के सागर थे। गौतम बुद्ध

ने राजपाट और सांसारिकता को _____ (2) ही महानता को

प्राप्त किया। गांधीजी ने वकालत छोड़कर देश को _____

(3) कराने के लिए लड़ाई छेड़ दी। ईसा मसीह ने _____

(4) में अपने _____ (5) की आहुति दी।

SubQuestion No : 8

Q.8 गद्यांश में संकेतित रिक्त स्थान (3) के लिए उपयुक्त शब्द होगा

Ans 1. परतंत्र

2. स्वछन्द

3. अराजक

4. स्वतंत्र

Question ID : 9895803913

Chosen Option : 4

Comprehension:

निम्नलिखित गद्यांश के रिक्त स्थानों की पूर्ति गद्यांश के नीचे दिए गए प्रश्नों के अनुसार कीजिए -

संसार के सभी _____ (1) करुणा के सागर थे। गौतम बुद्ध

ने राजपाट और सांसारिकता को _____ (2) ही महानता को

प्राप्त किया। गांधीजी ने वकालत छोड़कर देश को _____

(3) कराने के लिए लड़ाई छेड़ दी। ईसा मसीह ने _____

(4) में अपने _____ (5) की आहुति दी।

SubQuestion No : 9

Q.9 गद्यांश में संकेतित रिक्त स्थान (4) के लिए उपयुक्त शब्द होगा

- Ans
- 1. स्वहित
 - 2. आत्महित
 - 3. जनहित
 - 4. मनहित

Question ID : 9895803914
Chosen Option : 3

Comprehension:

निम्नलिखित गद्यांश के रिक्त स्थानों की पूर्ति गद्यांश के नीचे दिए गए प्रश्नों के अनुसार कीजिए -

संसार के सभी _____ (1) करुणा के सागर थे। गौतम बुद्ध ने राजपाट और सांसारिकता को _____ (2) ही महानता को प्राप्त किया। गांधीजी ने वकालत छोड़कर देश को _____ (3) कराने के लिए लड़ाई छेड़ दी। ईसा मसीह ने _____ (4) में अपने _____ (5) की आहुति दी।

SubQuestion No : 10

Q.10 गद्यांश में संकेतित रिक्त स्थान (5) के लिए उपयुक्त शब्द होगा

- Ans
- 1. सपनों
 - 2. विचारों
 - 3. प्राणों
 - 4. धन-धान्य

Question ID : 9895803915
Chosen Option : 3

Q.11 रिक्त स्थान को भरने के लिए उपयुक्त शब्द का चयन करें।

_____ ही बादल छाए, मोर नाचने लगा।

- Ans
- 1. वैसे
 - 2. किस
 - 3. कब
 - 4. जैसे

Question ID : 9895803909
Chosen Option : 4

Q.1 निम्नलिखित में से उस विकल्प का चयन करें जो ' जमीन आसमान एक करना ' मुहाबरे का अर्थ व्यक्त करता है।

- Ans
- 1. जमीन को आसमान तक ले जाना
 - 2. बहुत अधिक परिश्रम करना
 - 3. जमीन और आसमान को मिलाना
 - 4. कम परिश्रम करना

Question ID : 9895803921
Chosen Option : 2

Q.1 दिए गए वाक्य में रेखांकित खंड को प्रतिस्थापित करने के लिए उपयुक्त विकल्प का चयन करें।

आदर्श बालक सुबह उठकर अपनी माता-पिता को प्रणाम करते हैं।

- Ans
- 1. हमारे माता-पिता को
 - 2. अपने माता-पिता को
 - 3. अपना माता-पिता को
 - 4. उसके माता-पिता को

Question ID : 9895803903
Chosen Option : 2

Q.1 निम्नलिखित में से उस विकल्प का चयन करें जो ' छाती पर मूँग दलना ' मुहाबरे का अर्थ व्यक्त करता है।

- Ans
- 1. सुख देना
 - 2. छाती से मूँग पीसना
 - 3. दली हुई मूँग को छाती पर रखना
 - 4. दुख देना

Question ID : 9895803920
Chosen Option : 4

Q.1 दिए गए वाक्य का वह भाग ज्ञात करें जिसमें कोई त्रुटि है।

लक्ष्यहीन मनुष्य जिंदगियों में कभी सार्थक कार्य नहीं कर सकता।

- Ans
- 1. लक्ष्यहीन मनुष्य
 - 2. नहीं कर सकता।
 - 3. जिंदगियों में कभी
 - 4. सार्थक कार्य

Question ID : 9895803900
Chosen Option : 3

Q.1
6

रिक्त स्थान को भरने के लिए उपयुक्त शब्द का चयन करें।

मैं _____ को परेशान नहीं करूँगा।

- Ans
- 1. कोई
 - 2. कुछ
 - 3. कभी
 - 4. किसी

Question ID : 9895803907
Chosen Option : 4

Q.1
7 दिए गए वाक्य का वह भाग ज्ञात करें जिसमें कोई त्रुटि है।

अपनी आय में से भावी जीवन के लिए कुछ अंश बचाकर रखनी बचत कहलाता है।

- Ans
- 1. भावी जीवन के लिए
 - 2. बचत कहलाता है।
 - 3. कुछ अंश बचाकर रखनी
 - 4. अपनी आय में से

Question ID : 9895803902
Chosen Option : 2

Q.1
8 रिक्त स्थान को भरने के लिए उपयुक्त शब्द का चयन करें।

चारों ओर रंग ही रंग _____ गए।

- Ans
- 1. भाग
 - 2. बिखर
 - 3. बौखला
 - 4. मुरझा

Question ID : 9895803908
Chosen Option : 2

Q.1
9 दिये गये वाक्यांश के लिए एक शब्द दीजिये।

जो मास में एक बार होता हो

- Ans
- 1. वार्षिक
 - 2. मासिक
 - 3. पाक्षिक
 - 4. साप्ताहिक

Question ID : 9895803923
Chosen Option : 2

Q.2
0

दिये गये वाक्यांश के लिए एक शब्द दीजिये।

जो कुछ न जानता हो

- Ans
- 1. अज्ञ
 - 2. सर्वज्ञ
 - 3. अल्पज्ञ
 - 4. मर्मज्ञ

Question ID : 9895803922
Chosen Option : 1

Q.2
1 दिए गए शब्द के पर्यायवाची शब्द का चयन करें।

गंगा

- Ans
- 1. भागीरथी
 - 2. यमुना
 - 3. नदी
 - 4. तटिनी

Question ID : 9895803919
Chosen Option : 4

Q.2
2 रिक्त स्थान को भरने के लिए उपयुक्त शब्द का चयन करें।

किसान हल _____ खेत की ओर जा रहा है।

- Ans
- 1. मारकर
 - 2. धक्का देकर
 - 3. लेकर
 - 4. तोड़कर

Question ID : 9895803906
Chosen Option : 3

Q.2
3 दिए गए वाक्य में रेखांकित खंड को प्रतिस्थापित करने के लिए उपयुक्त विकल्प का चयन करें।

दादाजी मोटियाँ रोटियाँ नहीं खाते।

- Ans
- 1. रोटियाँ मोटियाँ
 - 2. मोटा रोटी
 - 3. मोटे रोटियाँ
 - 4. मोटी रोटियाँ

Question ID : 9895803905
Chosen Option : 4

Q.2
4

दिए गए शब्द के पर्यायवाची शब्द का चयन करें।

बादल

- Ans
- 1. पयोधर
 - 2. पवन
 - 3. पर्वत
 - 4. पानी

Question ID : 9895803918
Chosen Option : 1

Q.2
5 दिए गए वाक्य में रेखांकित खंड को प्रतिस्थापित करने के लिए उपयुक्त विकल्प का चयन करें।

व्यक्ति को अपना जीवन सफल बनाने के लिए आशा पर सहारा लेना चाहिए।

- Ans
- 1. आशाओं ने सहारा
 - 2. आशा का सहारा
 - 3. आशा के सहारा
 - 4. आशा की सहारा

Question ID : 9895803904
Chosen Option : 2

KD Job Updates

Constable (GD) in CAPFs, NIA, SSF and Rifleman (GD) in Assam Rifles Examination, 2018

Roll No. :	
Registration No.	
Name :	
Exam Venue :	
Exam Time :	9:00 AM - 10:30 AM
Exam Date :	14/02/2019

Section : General Section

Q.1 उस विकल्प का चयन करें जो दी गई श्रेणी में (?) के चिन्ह का सही ढंग से स्थान लेगा।

8, 19, 41, 74, ?

- Ans
1. 108
2. 98
3. 118
4. 128

Question ID : 9895802839
Chosen Option : 2

Q.2 जिस प्रकार दूसरी संख्या प्रथम संख्या से सम्बंधित है उसी प्रकार तीसरी संख्या से सम्बंधित संख्या का चयन दिए गए विकल्पों में से करें।

32 : 256 :: 16 : ?

- Ans
1. 122
2. 66
3. 144
4. 128

Question ID : 9895802841
Chosen Option : 4

Q.3 दिए गए विकल्पों में से असंगत संख्या का चयन करें।

- Ans
1. 561
2. 651
3. 571
4. 471

Question ID : 9895802842
Chosen Option : 3

Q.4 एक निश्चित कूट भाषा में BICYCLE को 59 लिखा जाता है। उस कूट भाषा में WINDOW कैसे लिखा जाएगा?

- Ans
1. 91
2. 89
3. 88
4. 77

Question ID : 9895802833
Chosen Option : 2

Q.5 विकल्पों में से उस आकृति का चयन करें जिसमें 'X' से चिह्नित आकृति समाहित है। (घुमाने की अनुमति नहीं है)



X

Ans

1. 1.
2. 2.
3. 3.
4. 4.

Question ID : 9895802847
Chosen Option : 3

Q.6 जिस प्रकार दूसरा शब्द प्रथम शब्द से सम्बंधित है उसी प्रकार तीसरे शब्द से सम्बंधित शब्द का चयन दिए गए विकल्पों में से करें।

गर्वीला:सरकशी : : भान्ति?

- Ans
1. 1. पतन
2. 2. भ्रम
3. 3. युद्ध
4. 4. अहंकार

Question ID : 9895802829
Chosen Option : 2

Q.7 नीचे दिए गए कथन के बाद दो निष्कर्ष I और II हैं। भले ही यह सामान्य तथ्यों से भिन्न दिखाई देते हों, यह मानते हुए कि कौनसा/कौनसे निष्कर्ष तार्किक और निश्चित रूप से कथन में दी गई जानकारी सही है निर्धारित करें कि कथन में दी गई जानकारी का अनुसरण करता/करते हैं।

कथन:

- 1) कुछ आयतन बल हैं।
- 2) कुछ प्रवाह आयतन हैं।

निष्कर्ष

- I. कुछ आयतन बल हैं।
- II. कुछ आयतन प्रवाह हैं।

- Ans
1. 1. केवल निष्कर्ष II अनुसरण करता है।
2. 2. केवल निष्कर्ष I अनुसरण करता है।
3. 3. न निष्कर्ष I न ही निष्कर्ष II अनुसरण करता है।
4. 4. दोनों निष्कर्ष अनुसरण करते हैं।

Question ID : 9895802838
Chosen Option : 2

Q.8 दिए गए विकल्पों में से असंगत विकल्प का चयन करें।

- Ans
- 1. FJU
 - 2. ILP
 - 3. THI
 - 4. JHU

Question ID : 9895802827
Chosen Option : 2

Q.9 उस विकल्प का चयन करें जो जब दर्पण को दाईं ओर रखने पर दिए गए शब्द के दर्पण प्रतिबिम्ब से सर्वाधिक मिलताजुलता हो।

UPRIGHT

- Ans
- 1. THGIRU
 - 2. UPRIGHT
 - 3. UPRIGHT
 - 4. THGIRU

Question ID : 9895802848
Chosen Option : 2

Q.1 एक आकृति के साथ चतुष्कोण पारदर्शी कागज दिया गया है। जब पारदर्शी कागज को बिन्दुओं की बिन्दुदार रेखा से मोड़ा जाए तो आकृति किस तरह दिखाई देगी?



- Ans
- 1.
 - 2.
 - 3.
 - 4.

Question ID : 9895802849
Chosen Option : 1

Q.1 सात मित्र O, P, Q, R, S, T और U एक पंक्ति में बैठ कर फिल्म देख रहे हैं। S एक अंतिम छोर पर बैठा है। Q, S के दाईं ओर से दूसरे स्थान पर बैठा है। P, O और Q के बीच में बैठा है। U किसी भी अंतिम छोर पर नहीं बैठा है। R, T की बाईं ओर बैठा है। S और Q के बीच कौन बैठा है?

- Ans
- 1. U
 - 2. R

3. O
4. P

Question ID : 9895802834
Chosen Option : 1

Q.1 दिए गए चार विकल्पों में से एक आकृति का चयन, जिसे आकृति X के रिक्त स्थान (?) में रखे जाने पर आकार (पैटर्न) पूरा हो (घूर्णन की अनुमति नहीं है)।



Ans

- 1.
- 2.
- 3.
- 4.

Question ID : 9895802846
Chosen Option : 1

Q.1 J, K, L, M, N और O छः शिक्षक हैं। इनमें से प्रत्येक शिक्षक हिंदी, अंग्रेजी, गणित, विज्ञान, सामाजिक विज्ञान और कला में से अलग-अलग विषय पढ़ाता है, जरूरी नहीं इसी क्रम में। प्रत्येक शिक्षक, सोमवार से शनिवार के बीच, केवल एक दिन ही पढ़ाता है, जरूरी नहीं इसी क्रम में। J शनिवार को कला पढ़ाता है। L न तो अंग्रेजी पढ़ाता है न ही सामाजिक विज्ञान, मगर वह गुरुवार को पढ़ाता है। बुधवार K द्वारा पढ़ाए जाते गणितके लिए आरक्षित है। O, N के एक दिन पहले विज्ञान पढ़ाता है। सामाजिक विज्ञान, कला के एक दिन पहले पढ़ाया जाता है। विज्ञान और गणित पढ़ाए जाने वाले दिनों के बीच में आने वाले दिन कौन सा विषय पढ़ाया जाता है?

Ans

1. विज्ञान
2. कला
3. अंग्रेजी
4. हिंदी

Question ID : 9895802836
Chosen Option : 3

Q.1 आठ मित्र A, B, C, D, E, F, G और H एक गोलाकार मेज के इर्दगिर्द आमनेसामने बैठ कर भोजन कर रहे हैं। A, F के सामने और B की दाईं ओर से तीसरे स्थान पर है। G, F और D के बीच में है। H, D की बाईं ओर है। E, C और A के बीच में है। A की बाईं ओर से चौथे स्थान पर कौन बैठा है?

Ans

1. B
2. C
3. D
4. F

Question ID : 9895802835
Chosen Option : 4

Q.1
5

उस विकल्प का चयन करें जो दिए गए नमूने में (?) के चिन्ह का सही ढंग से स्थान लेगा ।

6	7	9
3	4	?
27	33	65

Ans


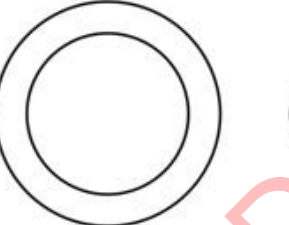
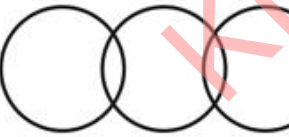
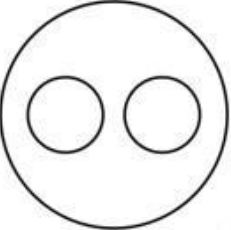
1. 4
 2. 11
 3. 5
 4. 13

Question ID : 9895802843
Chosen Option : 2

Q.1 वेन चित्र का चयन करें जो दी गई श्रेणियों को सही ढंग से दर्शाता है।

मुद्राएँ , युआन, बाहथ

Ans

1. 
 2. 
 3. 
 4. 

Question ID : 9895802850
Chosen Option : 4

Q.1 उस विकल्प का चयन करें जो दी गई श्रेणी में (?) के चिन्ह का सही ढंग से स्थान लेगा। 16, 20, 36, 72, ?

Ans

1. 146
 2. 126
 3. 116

✓ 4. 136

Question ID : 9895802840

Chosen Option : 1

Q.1 जिस प्रकार दूसरा शब्द प्रथम शब्द से सम्बंधित है उसी प्रकार तीसरे शब्द से सम्बंधित शब्द का चयन दिए गए विकल्पों में से करें।

GKM : FIO :: EIK:?

Ans ✓ 1. DGM

✗ 2. DGN

✗ 3. DFM

✗ 4. DHM

Question ID : 9895802831

Chosen Option : 1

Q.1 नीचे दिए गए कथन के बाद दो निष्कर्ष I और II हैं। भले ही यह सामान्य तथ्यों से भिन्न दिखाई देते हों, यह मानते हुए कि कथन में दी गई जानकारी सही है, यह निर्धारित करें कि कौनसा/कौनसे निष्कर्ष तार्किक और निश्चित रूप से कथन में दी गई जानकारी का अनुसरण करता/करते हैं।

कथन:

1) कुछ वाइन्स कुसियां हैं.

2) सभी कुसियां इम्स हैं.

निष्कर्ष

I. सभी कुसियां वाइन्स हैं .

II. कुछ इम्स वाइन्स हैं.

Ans ✗ 1. निष्कर्ष I या निष्कर्ष II अनुसरण करता है।

✗ 2. दोनों निष्कर्ष अनुसरण करते हैं।

✓ 3. केवल निष्कर्ष II अनुसरण करता है।

✗ 4. केवल निष्कर्ष I अनुसरण करता है।

Question ID : 9895802837

Chosen Option : 3

Q.2 एक निश्चित कूट भाषा में BOTANY को OBATYN लिखा जाता है। उस कूट भाषा में OOLOGY कैसे लिखा जाएगा?

Ans ✗ 1. OLOOYG

✗ 2. OOLOYG

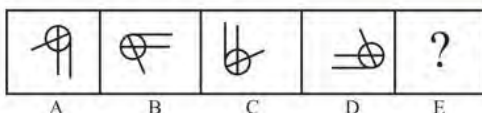
✗ 3. OOOLGY

✓ 4. OOOLYG



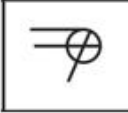

Question ID : 9895802832

Chosen Option : 4

Q.2 विकल्पों में से उस आकृति का चयन करें जो दी गई श्रृंखला में अगले स्थान पर आएगी।



Ans

1. 
2. 
3. 
4. 

Question ID : 9895802845
Chosen Option : 4

Q.2 जिस प्रकार दूसरा शब्द प्रथम शब्द से सम्बंधित है उसी प्रकार तीसरे शब्द से सम्बंधित शब्द का चयन दिए गए विकल्पों में से करें।

अध्याय : पुस्तक :: चापः?

- Ans 1. वृत्त
2. समचतुर्भुज
3. घन
4. त्रिभुज

Question ID : 9895802830
Chosen Option : 1

Q.2 निम्नलिखित समीकरण को सही करने के लिए विकल्पों में दिए गए किन दो चिहनों को परस्पर बदला जाना चाहिए?

$$21 + 5 \times 2 - 21 + 3 = 12$$

- Ans 1. - और ÷
2. × और ÷
3. + और -
4. - और ×

Question ID : 9895802844
Chosen Option : 4

Q.2 उस विकल्प का चयन करें जो दी गई श्रेणी में (?) के चिन्ह का सही ढंग से स्थान लेगा।

RMB, POZ, NQX, LSV, ?

- Ans 1. JUT
2. JVS
3. JUS
4. JVT

Question ID : 9895802826
Chosen Option : 1

Q.2
5 दिए गए विकल्पों में से असंगत विकल्प का चयन करें।

- Ans
- 1. बीजिंग
 - 2. थिम्पू
 - 3. चिली
 - 4. ओटावा

Question ID : 9895802828
Chosen Option : 2

Q.2
6 'अडाॅप्ट ए हेरिटेज: अपनी धरोहर, अपनी पहचान', _____ की एक पहल है।

- Ans
- 1. संस्कृति मंत्रालय
 - 2. पर्यटन मंत्रालय
 - 3. भारतीय पुरातत्व सर्वेक्षण
 - 4. भारतीय ऐतिहासिक अनुसंधान परिषद

Question ID : 9895802898
Chosen Option : 4

Q.2
7 मांसपेशियों में ऐंठन का कारण क्या होता है?

- Ans
- 1. रक्त परिसंचरण में वृद्धि
 - 2. श्रान्त मांसपेशियां द्वारा वातापेक्षी रूप से श्वसन
 - 3. लैक्टिक एसिड का संचय
 - 4. पसीने के दौरान पानी की कमी

Question ID : 9895802880
Chosen Option : 3

Q.2
8 निम्नलिखित में से कौन सी भाषा संविधान की आठवीं अनुसूची का हिस्सा नहीं है?

- Ans
- 1. डोगरी
 - 2. फ़ारसी
 - 3. बोडो
 - 4. संथाल

Question ID : 9895802892
Chosen Option : 4

Q.2
9 जातक कथाएँ निम्नलिखित में से किस संप्रदाय से जुड़ी हुई हैं?

- Ans
- 1. लिंगायत
 - 2. जैन धर्म
 - 3. बौद्ध धर्म
 - 4. शैव धर्म

Question ID : 9895802887

Chosen Option : 3

Q.3
0 कैबिनेट ने 2018-19 के लिए गेहूं का न्यूनतम समर्थन मूल्य कितने रुपयों तक बढ़ा दिया है?

- Ans
- 1. ₹ 202 प्रति क्विंटल
 - 2. ₹ 600 प्रति क्विंटल
 - 3. ₹ 309 प्रति क्विंटल
 - 4. ₹ 105 प्रति क्विंटल

Question ID : 9895802896

Chosen Option : 2

Q.3
1 निम्नलिखित में से किसे एक संकेतक के रूप में इस्तेमाल नहीं किया जा सकता?

- Ans
- 1. हल्दी
 - 2. साधारण नमक
 - 3. फिनोल्फ़थेलिन
 - 4. चीनी गुलाब

Question ID : 9895802877

Chosen Option : 3

Q.3
2 जानपीठ पुरस्कार निम्नलिखित में से किस क्षेत्र में उत्कृष्टता के लिए दिया जाता है?

- Ans
- 1. साहित्य
 - 2. सामाजिक कार्य
 - 3. चिकित्सा-शास्त्र
 - 4. चलचित्र

Question ID : 9895802900

Chosen Option : 1

Q.3
3 मीराबाई चानू ने संयुक्त राज्य अमेरिका के अँनाहाइम में आयोजित निम्नलिखित में से किस प्रतियोगिता में स्वर्ण पदक जीता था?

- Ans
- 1. विश्व वेइटलिफ्टिंग (भारोत्तोलन) प्रतियोगिता
 - 2. विश्व तीरंदाजी प्रतियोगिता
 - 3. विश्व स्नूकर प्रतियोगिता
 - 4. विश्व टेनिस प्रतियोगिता

Question ID : 9895802881

Chosen Option : 2

Q.3
4 नागार्जुन सागर बांध कौन सी नदी पर बनाया गया है?

- Ans
- 1. महानदी
 - 2. कावेरी
 - 3. पम्बा

✓ 4. कृष्णा

Question ID : 9895802890
Chosen Option : 4

Q.3
5 निम्नलिखित में से कौन सा देश BASIC समूहीकरण का सदस्य नहीं है?

- Ans
- ✗ 1. चीन
 - ✗ 2. दक्षिण अफ्रीका
 - ✗ 3. ब्राज़िल
 - ✓ 4. केन्या

Question ID : 9895802899
Chosen Option : 3

Q.3
6 बैंक की दर निम्नलिखित में से किस एजेंसी द्वारा तय की जाती है?

- Ans
- ✗ 1. भारतीय प्रतिभूति और विनिमय बोर्ड (सेबी)
 - ✗ 2. वित्त मंत्रालय
 - ✗ 3. भारतीय स्टेट बैंक
 - ✓ 4. भारतीय रिजर्व बैंक

Question ID : 9895802895
Chosen Option : 1

Q.3
7 _____ शुद्धि आन्दोलन के संस्थापक थे।

- Ans
- ✓ 1. स्वामी दयानंद सरस्वती
 - ✗ 2. ईश्वर चंद्र विद्यासागर
 - ✗ 3. स्वामी विवेकानंद
 - ✗ 4. राजा राम मोहनरोय

Question ID : 9895802888
Chosen Option : 4

Q.3
8 2018 राष्ट्रमंडल खेल में कहाँ आयोजित किए गए थे?

- Ans
- ✗ 1. दोहा
 - ✓ 2. गोल्ड कोस्ट
 - ✗ 3. ब्राज़िल
 - ✗ 4. लंडन

Question ID : 9895802882
Chosen Option : 2

Q.3
9 'गोल गुम्बज़' कहाँ पर स्थित है?

- Ans
- ✓ 1. विजयापुरा

- 2. दौलताबाद
- 3. हैदराबाद
- 4. बीदर

Question ID : 9895802883
Chosen Option : 3

Q.4
0 पंडित भीमसेन जोशी शास्त्रीय संगीत की किस परंपरा से जुड़े हुए हैं?

- Ans
- 1. कर्नाटकी
 - 2. हिंदुस्तानी
 - 3. ठुमरी
 - 4. कच्वाली

Question ID : 9895802885
Chosen Option : 3

Q.4
1 भूमि और समुद्री हवा किस कारण से होती है?

- Ans
- 1. प्रवाहकत्व
 - 2. संवहन
 - 3. पर्यनुकूलन
 - 4. विकिरण

Question ID : 9895802878
Chosen Option : 3

Q.4
2 जठर द्वारा स्रावित बलगम की भूमिका क्या है?

- Ans
- 1. पेट की परत की रक्षा करना
 - 2. भोजन में कीटाणुओं को मारना
 - 3. वसा को पचाना
 - 4. प्रोटीन को पचाना

Question ID : 9895802876
Chosen Option : 2

Q.4
3 _____ मिट्टी में पानी की अंतःस्त्रवण (परकोलेशन) दर सबसे कम है।

- Ans
- 1. रेतीली
 - 2. दुम्मट्टी
 - 3. मृण्मय
 - 4. बजरी

Question ID : 9895802879
Chosen Option : 2

Q.4 बैंक खाते या वित्तीय संस्थान में बिना किसी निर्दिष्ट परिपक्वता तिथि वाली जमा राशि को क्या कहते हैं?

- Ans
- 1. चालू जमा
 - 2. मांग जमा
 - 3. आवर्ती जमा
 - 4. सावधि जमा

Question ID : 9895802897
Chosen Option : 2

Q.4 रियो डी जनेरियो की पृथ्वी शिखर बैठक किस वर्ष में आयोजित की गई थी?

- Ans
- 1. 1991
 - 2. 1990
 - 3. 1993
 - 4. 1992

Question ID : 9895802889
Chosen Option : 3

Q.4 निम्नलिखित में से कौन सा विरासत स्थल वास्तुकला की बेहतरीन द्रविड़ शैली को दर्शाता है?

- Ans
- 1. बोध गया
 - 2. कोणार्क
 - 3. हम्पी
 - 4. अक्षरधाम

Question ID : 9895802884
Chosen Option : 4

Q.4 निम्नलिखित में से क्या भारत के सर्वोच्च न्यायालय के अधिकार क्षेत्र में नहीं है?

- Ans
- 1. परामर्शक
 - 2. वित्तीय
 - 3. पुनर्विचार
 - 4. मूल

Question ID : 9895802893
Chosen Option : 3

Q.4 अशोक द्वारा नियुक्त धार्मिक अधिकारी किस नामसे जाने जाते थे?

- Ans
- 1. धम्मा-महामत्ता
 - 2. धम्माधिराज
 - 3. धम्माध्याक्ष
 - 4. धम्माधिकारी

Question ID : 9895802886
Chosen Option : 4

Q.4 2011 की जनगणना के अनुसार, किस राज्य का साक्षरता दर सबसे अधिक है?

- Ans
- 1. गोवा
 - 2. मिजोरम
 - 3. कर्नाटक
 - 4. केरल

Question ID : 9895802891

Chosen Option : 4

Q.5 86 वें संविधान संशोधन अधिनियम, 2002 ने भारत के संविधान में निम्नलिखित में से कौन सा अनुच्छेद दाखिल किया था?

- Ans
- 1. 20-A
 - 2. 56-C
 - 3. 39-A
 - 4. 21-A

Question ID : 9895802894

Chosen Option : 3

Q.5 एक कालोनी में बच्चे, महिलाएं तथा पुरुषों की संख्या का अनुपात क्रमशः 6 : 4 : 3 है तथा कालोनी में न्यूनतम सदस्य 200 है। कालोनी में महिलाओं की न्यूनतम संख्या क्या होगी?

- Ans
- 1. 64
 - 2. 20
 - 3. 80
 - 4. 75

Question ID : 9895804628

Chosen Option : 1

Q.5 ₹ 6400 रु की एक राशि पर 10% की वार्षिक दर से 2 वर्षों के चक्रवृद्धि ब्याज (ब्याज का संयोजन वार्षिक किया गया है) तथा साधारण ब्याज के मध्य अंतर क्या होगा?

- Ans
- 1. ₹ 128
 - 2. ₹ 72
 - 3. ₹ 64
 - 4. ₹ 90

Question ID : 9895804631

Chosen Option : 3

Q.5 यदि पाँच क्रमागत विषम संख्याओं का औसत 17 है, तो उनमें से सबसे बड़ी संख्या क्या होगी?

- Ans
- 1. 25
 - 2. 23.5
 - 3. 19
 - 4. 21

Question ID : 9895804620

Chosen Option : 4

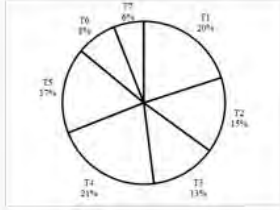
Q.5

4 यदि एक वस्तु का विक्रय मूल्य ₹ 432 है तथा लाभ 35% है, तो क्रय मूल्य क्या होगा?

- Ans
- 1. ₹ 480.40
 - 2. ₹ 368
 - 3. ₹ 320
 - 4. ₹ 583.20

Question ID : 9895804625
Chosen Option : 4

Q.5 नीचे दिया गया पाई चार्ट किसी शहर में एक वर्ष के लिए विभिन्न प्रकार की कारों की बिक्री दर्शाता है। शहर में कारों की कुल बिक्री 600000 है।



T5, T6 और T3 प्रकार की कारों की बिक्री की संख्या का कुल योग क्या है?

- Ans
- 1. 232000
 - 2. 252000
 - 3. 228000
 - 4. 245000

Question ID : 9895804640
Chosen Option : 3

Q.5 6 $\frac{5}{4}$ का $\frac{12}{5} \div \frac{4}{25} + \frac{1}{2} \times \frac{3}{4}$ का मान क्या है?

- Ans
- 1. $\frac{149}{4}$
 - 2. $\frac{149}{8}$
 - 3. $\frac{153}{8}$
 - 4. $\frac{153}{16}$

Question ID : 9895804619
Chosen Option : 3

Q.5 7 A अकेला एक कार्य को 10 दिन में पूरा कर सकता है तथा B अकेला समान कार्य को 20 दिन में पूरा कर सकता है। A तथा B दोनों मिलकर कुल कार्य का आधा कितने दिन में पूरा कर सकते हैं?

- Ans
- 1. $\frac{25}{3}$ दिन
 - 2. $\frac{40}{3}$ दिन
 - 3. $\frac{10}{3}$ दिन
 - 4. $\frac{20}{3}$ दिन

Question ID : 9895804632
Chosen Option : 4

Q.5 दो संख्याओं 14 तथा 18 के महत्तम समापवर्तक तथा लघुत्तम समापवर्त्य का अनुपात क्या होगा?

- Ans
- 1. 1 : 49
 - 2. 1 : 27
 - 3. 1 : 63
 - 4. 1 : 21

Question ID : 9895804617
Chosen Option : 3

Q.5 दिए गए आंकड़ों का माध्य क्या है?

23, 24, 25, 26, 27, 28, 29, 30, 31, 32

- Ans
- 1. 26.12
 - 2. 26.75
 - 3. 27.5
 - 4. 27.69

Question ID : 9895804623
Chosen Option : 3

Q.6 $\left(24 \div 4 - \frac{2}{3} \text{ का } \frac{21}{8} \div \frac{1}{4}\right)$ का मान क्या है?

- Ans
- 1. -8
 - 2. $-\frac{96}{15}$
 - 3. $\frac{91}{16}$
 - 4. -1

Question ID : 9895804618
Chosen Option : 4

Q.6 एक वर्ग का विकर्ण 10 से.मी. है। उस वर्ग के विकर्ण की लंबाई क्या होगी जिसका क्षेत्रफल पहले वर्ग के क्षेत्रफल का दोगुना है?

- Ans
- 1. $20\sqrt{2}$ से.मी.
 - 2. $8\sqrt{2}$ से.मी.
 - 3. 20 से.मी.
 - 4. $10\sqrt{2}$ से.मी.

Question ID : 9895804638
Chosen Option : 4

Q.6 एक रेलगाड़ी 45 मी./से. की गति से एक निश्चित दूरी को 15 मिनट में तय करती है। वह 60 मी./से. की गति से समान दूरी को तय करने में कितना समय लेगी?

- Ans
- 1. 4.75 मिनट
 - 2. 3.25 मिनट

3. 6.75 मिनट
4. 11.25 मिनट

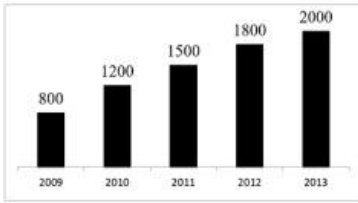
Question ID : 9895804635
Chosen Option : 4

Q.6 एक रेलगाड़ी 20 मी./से. की गति से चल रही है। यदि रेलगाड़ी की लम्बाई 540 मीटर है, तो वह एक खंभे को पार करने में कितना समय लेगी?

- Ans 1. 108 सेकण्ड
2. 54 सेकण्ड
3. 81 सेकण्ड
4. 27 सेकण्ड

Question ID : 9895804634
Chosen Option : 4

Q.6 नीचे दिए गए बार चार्ट में 2009 से 2013 के वर्षों के लिए एक देश के कॉफी के वार्षिक उत्पादन (1000 टन में) को दर्शाया गया है।



वर्ष 2010 की तुलना में वर्ष 2011 में कॉफी के उत्पादन में कितने प्रतिशत की वृद्धि हुई है?

- Ans 1. 25%
2. 32.5%
3. 27.5%
4. 20%

Question ID : 9895804641
Chosen Option : 1

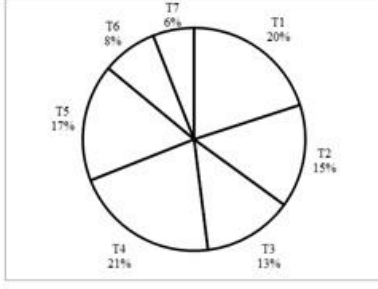
Q.6 एक व्यक्ति ₹ 128 प्रति बैग की दर से बैग खरीदता है। यदि वह 20% के लाभ पर बैग बेचता है, तो 15 बैग का विक्रय मूल्य क्या होगा?

- Ans 1. ₹ 2194
2. ₹ 1886
3. ₹ 2304
4. ₹ 1600

Question ID : 9895804626
Chosen Option : 3

Q.6
6

नीचे दिया गया पाई चार्ट किसी शहर में एक वर्ष के लिए विभिन्न प्रकार की कारों की बिक्री दर्शाता है। शहर में कारों की कुल बिक्री 600000 है।



T5 तथा T1 प्रकार की कारों की बिक्री की संख्या में क्या अंतर है?

- Ans
- 1. 21000
 - 2. 24000
 - 3. 27000
 - 4. 18000

Question ID : 9895804639
Chosen Option : 4

Q.6 एक आयत की लंबाई 24 से.मी. है। यदि विकर्ण की लंबाई 26 से.मी. है, तो आयत की चौड़ाई क्या होगी?

- Ans
- 1. 12 से.मी.
 - 2. 14 से.मी.
 - 3. 10 से.मी.
 - 4. 15 से.मी.

Question ID : 9895804636
Chosen Option : 3

Q.6 यदि एक घनाभ की लम्बाई, चौड़ाई तथा ऊँचाई को क्रमशः 10%, 20% तथा 15% से बढ़ाया जाता है, तो उसके आयतन में कितने प्रतिशत की वृद्धि होगी?

- Ans
- 1. 47.4%
 - 2. 51.8%
 - 3. 54.2%
 - 4. 45%

Question ID : 9895804624
Chosen Option : 2

Q.6 410, 475, 525, 560 तथा 720 का औसत क्या है?

- Ans
- 1. 538
 - 2. 561
 - 3. 542
 - 4. 526

Question ID : 9895804621
Chosen Option : 1

Q.7 0 25% तथा 20% की दो क्रमिक छूट दी गई हैं, तो निवल (नेट) छूट प्रतिशत क्या होगी?

- Ans
- 1. 45%
 - 2. 42.5%
 - 3. 40%
 - 4. 50%

Question ID : 9895804622
Chosen Option : 3

Q.7 1 P, Q तथा R एक कार्य को क्रमशः 30 दिन, 15 दिन तथा 20 दिन में पूरा कर सकते हैं। वे बारी-बारी से एक-एक दिन कार्य करते हैं। P पहले दिन कार्य करता है, फिर Q दूसरे दिन कार्य करता है तथा फिर R तीसरे दिन कार्य करता है और वे इसी प्रकार कार्य करते हैं। कार्य कितने दिन में पूरा हो जाएगा?

- Ans
- 1. 21 दिन
 - 2. 20 दिन
 - 3. 22 दिन
 - 4. 19 दिन

Question ID : 9895804633
Chosen Option : 2

Q.7 2 चार संख्याएँ क्रमशः 3 : 1 : 7 : 5 के अनुपात में हैं। यदि इन चार संख्याओं का योग 336 है, तो पहली तथा चौथी संख्या का योग क्या है?

- Ans
- 1. 146
 - 2. 152
 - 3. 172
 - 4. 168

Question ID : 9895804627
Chosen Option : 4

Q.7 3 दो वृत्तों की त्रिज्याएँ 20 से.मी. तथा 15 से.मी. हैं। यदि एक तीसरे वृत्त का क्षेत्रफल दोनों वृत्तों के क्षेत्रफल के योग के बराबर है, तो तीसरे वृत्त की त्रिज्या क्या होगी?

- Ans
- 1. 25 से.मी.
 - 2. 27 से.मी.
 - 3. 22 से.मी.
 - 4. 35 से.मी.

Question ID : 9895804637
Chosen Option : 1

Q.7 4 P तथा Q क्रमशः ₹ 28000 तथा ₹ 42000 के निवेश के साथ एक व्यापार शुरू करते हैं। P, 8 महीने के लिए निवेश करता है तथा Q एक वर्ष के लिए निवेश करता है। यदि वर्ष के अंत में कुल लाभ ₹ 21125 है, तो P का हिस्सा क्या है?

- Ans
- 1. ₹ 8750
 - 2. ₹ 14625
 - 3. ₹ 6500
 - 4. ₹ 12625

Question ID : 9895804629
Chosen Option : 3

Q.7 ₹ 3460 की एक राशि साधारण ब्याज से उधार दी जाती है। यदि वार्षिक ब्याज दर 5% है, तो 5 वर्षों के लिए साधारण ब्याज क्या होगा?

- Ans 1. ₹ 865
 2. ₹ 875
 3. ₹ 855
 4. ₹ 845

Question ID : 9895804630
 Chosen Option : 1

Section : English Language

Q.1 Select the most appropriate word to fill in the blank.

Smoking is _____ to health.

- Ans 1. serious
 2. tedious
 3. injurious
 4. anxious

Question ID : 9895804460
 Chosen Option : --

Q.2 Select the antonym of the given word.

OPAQUE

- Ans 1. Turbid
 2. Murky
 3. Fogged
 4. Transparent

Question ID : 9895804453
 Chosen Option : --

Q.3 Select the most appropriate option to substitute the underlined segment in the given sentence. If there is no need to substitute it, select No Improvement.

When you go by rail, make sure taking the express train that stops only at big stations.

- Ans 1. make sure to taking
 2. make sure to take
 3. making sure to take
 4. No improvement

Question ID : 9895804439
 Chosen Option : --

Q.4 Select the option that means the same as the given idiom.

To see eye to eye

- Ans 1. To threaten another

2. To love another
3. To agree with another
4. To fight with another

Question ID : 9895804455
Chosen Option : --

Comprehension:

In the following passage some words have been deleted. Fill in the blanks with the help of the alternatives given.

Without water (1) _____ animal can survive. In desert regions the greatest (2) _____ to life is dying of thirst. But many creatures are able to make use of (3) _____ little water that exists in arid areas. One of nature's masterpieces (4) _____ creatures equipped to (5) _____ with desert life is the hardy camel.

SubQuestion No : 5

Q.5 Select the most appropriate option that will fill in the blank number 1.

- Ans 1. no
2. any
3. some
4. every

Question ID : 9895804445
Chosen Option : --

Comprehension:

In the following passage some words have been deleted. Fill in the blanks with the help of the alternatives given.

Without water (1) _____ animal can survive. In desert regions the greatest (2) _____ to life is dying of thirst. But many creatures are able to make use of (3) _____ little water that exists in arid areas. One of nature's masterpieces (4) _____ creatures equipped to (5) _____ with desert life is the hardy camel.

SubQuestion No : 6

Q.6 Select the most appropriate option that will fill in the blank number 2.

- Ans 1. threat
2. requirement
3. worry
4. warning

Question ID : 9895804446
Chosen Option : --

Comprehension:

In the following passage some words have been deleted. Fill in the blanks with the help of the alternatives given.

Without water (1) _____ animal can survive. In desert regions the greatest (2) _____ to life is dying of thirst. But many creatures are able to make use of (3) _____ little water that exists in arid areas. One of nature's masterpieces (4) _____ creatures equipped to (5) _____ with desert life is the hardy camel.

SubQuestion No : 7

Q.7 Select the most appropriate option that will fill in the blank number 3.

- Ans 1. the
2. that
3. very
4. what

Question ID : 9895804447
Chosen Option : --

Comprehension:

In the following passage some words have been deleted. Fill in the blanks with the help of the alternatives given.

Without water (1) _____ animal can survive. In desert regions the greatest (2) _____ to life is dying of thirst. But many creatures are able to make use of (3) _____ little water that exists in arid areas. One of nature's masterpieces (4) _____ creatures equipped to (5) _____ with desert life is the hardy camel.

SubQuestion No : 8

Q.8 Select the most appropriate option that will fill in the blank number 4.

- Ans
- 1. besides
 - 2. between
 - 3. about
 - 4. among

Question ID : 9895804448
Chosen Option : --

Comprehension:

In the following passage some words have been deleted. Fill in the blanks with the help of the alternatives given.

Without water (1) _____ animal can survive. In desert regions the greatest (2) _____ to life is dying of thirst. But many creatures are able to make use of (3) _____ little water that exists in arid areas. One of nature's masterpieces (4) _____ creatures equipped to (5) _____ with desert life is the hardy camel.

SubQuestion No : 9

Q.9 Select the most appropriate option that will fill in the blank number 5.

- Ans
- 1. live
 - 2. cope
 - 3. adapt
 - 4. resist

Question ID : 9895804449
Chosen Option : --

Q.1 From the given options, identify the segment in the sentence which contains the grammatical error.

0

After finishing his tiring game, Rohan leaned by the wall.

- Ans
- 1. After finishing
 - 2. his game
 - 3. by the wall
 - 4. Rohan leaned

Question ID : 9895804437
Chosen Option : --

Q.1 Select the synonym of the given word.

1

IMPECCABLE

- Ans
- 1. Smooth
 - 2. Imperfect
 - 3. Clean
 - 4. Flawless

Question ID : 9895804450
Chosen Option : --

Q.1

2 Select the synonym of the given word.

SLENDER

- Ans
- 1. Weak
 - 2. Wide
 - 3. Narrow
 - 4. Slim

Question ID : 9895804451
Chosen Option : --

Q.1 Select the most appropriate option to substitute the underlined segment in the given sentence. If there is no need to substitute it, select No Improvement.

3

Meeting my teacher after ten years was an unforgotten moment that I will always treasure.

- Ans
- 1. an unforgettable moment
 - 2. the unforgotten moment
 - 3. No improvement
 - 4. a forgotten moment

Question ID : 9895804441
Chosen Option : --

Q.1 Select the correctly spelt word.

4

- Ans
- 1. Achieve
 - 2. Acheeve
 - 3. Acheive
 - 4. Achiev

Question ID : 9895804459
Chosen Option : --

Q.1 From the given options, identify the segment in the sentence which contains the grammatical error.

5

If it weren't for the old man, we haven't had anything to talk about.

- Ans
- 1. we haven't had
 - 2. If it weren't
 - 3. for the old man
 - 4. anything to talk

Question ID : 9895804436
Chosen Option : --

Q.1 Select the word which means the same as the group of words given.

6

A place where fights take place

- Ans
- 1. Asylum
 - 2. Arsenal
 - 3. Arena
 - 4. Aquarium

Question ID : 9895804870

Chosen Option : --

Q.1
7 Select the option that means the same as the given idiom.

To have the gift of the gab

- Ans
- 1. To be gifted
 - 2. To be eloquent
 - 3. To be intelligent
 - 4. To be boastful

Question ID : 9895804454

Chosen Option : --

Q.1
8 From the given options, identify the segment in the sentence which contains the grammatical error.

The man greeted his secretary and told her that he need her help to complete the work immediately.

- Ans
- 1. told her that
 - 2. greeted his secretary
 - 3. to complete the work
 - 4. he need her help

Question ID : 9895804438

Chosen Option : --

Q.1
9 Select the word which means the same as the group of words given.

A poem that expresses lament for the dead

- Ans
- 1. Ode
 - 2. Sonnet
 - 3. Elegy
 - 4. Lyric

Question ID : 9895804457

Chosen Option : --

Q.2
0 Select the most appropriate word to fill in the blank.

Let us _____ our heads together to solve the problem.

- Ans
- 1. join
 - 2. bring
 - 3. put
 - 4. combine

Question ID : 9895804461

Chosen Option : --

Q.2
1 Select the most appropriate option to fill in the blank.

In the United States of America two dozen people _____ due to the present cold wave.

- Ans 1. has killed
 2. are being killed
 3. have been killed
 4. has been killed

Question ID : 9895804442

Chosen Option : --

Q.2 Select the most appropriate option to substitute the underlined segment in the given sentence. If there is no need to substitute it, select No Improvement.

2 My favourite novelist in all was Charles Dickens, who really left his mark on me.

- Ans 1. My favourite novelist between all
 2. My favourite novelist at all
 3. My favourite novelist of all
 4. No improvement

Question ID : 9895804440

Chosen Option : --

Q.2 Select the correctly spelt word.

- 3 Ans 1. Perminent
 2. Permanent
 3. Pirmenent
 4. Permanant

Question ID : 9895804458

Chosen Option : --

Q.2 Select the antonym of the given word.

4 STINGY

- Ans 1. Skinny
 2. Mean
 3. Generous
 4. Cheap

Question ID : 9895804452

Chosen Option : --

Q.2 Select the most appropriate option to fill in the blank.

5 I think that childhood is a time when there are _____ ways to make life enjoyable.

- Ans 1. less
 2. many
 3. little
 4. more

Question ID : 9895804443

Chosen Option : --

Section : Hindi Language

Q.1 सही वर्तनी वाले शब्द का चयन करें।

- Ans 1. विक्रेता
 2. वीकरेता
 3. विकरेता
 4. वीक्रेता

Question ID : 9895803976
 Chosen Option : 1

Q.2 दिए गए वाक्य में रेखांकित खंड को प्रतिस्थापित करने के लिए उपयुक्त विकल्प का चयन करें।

समाज में महान व आदर्श नागरिक बनना ऐसा श्रेष्ठ कार्य है जो धन पर बढ़कर है।

- Ans 1. जो धन का बढ़कर है।
 2. जो धन से बढ़कर है।
 3. जो धन को बढ़कर है।
 4. जो धन में बढ़कर है।

Question ID : 9895803954
 Chosen Option : 2

Q.3 दिए गए शब्द का विलोम चुनें।

आवरण

- Ans 1. अनावरण
 2. पर्यावरण
 3. अकरणीय
 4. वैयाकरण

Question ID : 9895803967
 Chosen Option : 1

Q.4 दिये गये वाक्यांश के लिए एक शब्द चुनिए।

जो बिना तिथि बताए आए

- Ans 1. संत
 2. अतिथि
 3. आगत
 4. दैनिक

Question ID : 9895803973
 Chosen Option : 2

Q.5 दिए गए वाक्य का वह भाग ज्ञात करें जिसमें कोई त्रुटि है।

भारतीय संस्कृति की सबसे बड़ी विशेषता रहा है, अनेकता में एकता।

- Ans
- 1. भारतीय संस्कृति की
 - 2. सबसे बड़ी विशेषता
 - 3. रहा है
 - 4. अनेकता में एकता।

Question ID : 9895803953
Chosen Option : 3

Q.6 रिक्त स्थान को भरने के लिए उपयुक्त शब्द का चयन करें। _____ में भीड़ रहती है।

- Ans
- 1. पानी
 - 2. मेज
 - 3. महानगरों
 - 4. आकाश

Question ID : 9895803958
Chosen Option : 3

Q.7 दिए गए शब्द के पर्यायवाची शब्द का चयन करें।

विश्व

- Ans
- 1. पाताल
 - 2. भूमि
 - 3. धरती
 - 4. संसार

Question ID : 9895803969
Chosen Option : 4

Q.8 दिए गए वाक्य में रेखांकित खंड को प्रतिस्थापित करने के लिए उपयुक्त विकल्प का चयन करें।

नेताजी ने बाढ़ पीड़ितों के लिए भोजन का व्यवस्था करवाई।

- Ans
- 1. भोजन के व्यवस्था
 - 2. भोजन को व्यवस्था
 - 3. भोजन की व्यवस्था
 - 4. भोजन पर व्यवस्था

Question ID : 9895803955
Chosen Option : 3

Q.9 निम्नलिखित में से उस विकल्प का चयन करें जो 'कड़वा घूँट पीना' मुहावरे का अर्थ व्यक्त करता है।

- Ans
- 1. चुपचाप अपमान सहना
 - 2. कड़वा पानी पीना
 - 3. अपमान करना
 - 4. किसी को कड़वा पानी पिलाना

Question ID : 9895803971
Chosen Option : 1

Q.1
0 सही वर्तनी वाले शब्द का चयन करें।

- Ans
- 1. अविलंम
 - 2. अवीलम्ब
 - 3. अविलम्ब
 - 4. अविलंब

Question ID : 9895803975
Chosen Option : 3

Q.1
1 दिए गए वाक्य का वह भाग ज्ञात करें जिसमें कोई त्रुटि है।

कामकाजी नारी की जीवन चक्की के दो पाटों की तरह होता है।

- Ans
- 1. चक्की के दो पाटों
 - 2. कामकाजी नारी
 - 3. की जीवन
 - 4. की तरह होता है।

Question ID : 9895803951
Chosen Option : 3

Q.1
2 रिक्त स्थान को भरने के लिए उपयुक्त शब्द का चयन करें। शरीर में _____ होनी चाहिए।

- Ans
- 1. कमजोरी
 - 2. भाक्ति
 - 3. शक्ति
 - 4. कमी

Question ID : 9895803959
Chosen Option : 3

Q.1
3 दिए गए शब्द का विलोम चुनें।
स्नेहसिक्त

- Ans
- 1. स्नेहकर्ता
 - 2. स्नेहरिक्त
 - 3. स्नेहकाल
 - 4. स्नेहभक्त

Question ID : 9895803968
Chosen Option : 2

Q.1
4

दिये गये वाक्यांश के लिए एक शब्द चुनिए।

जो कम जानता हो

- Ans 1. अल्पज्ञ
 2. मर्मज्ञ
 3. सर्वज्ञ
 4. कर्मज्ञ

Question ID : 9895803974
Chosen Option : 1

Q.1
5 रिक्त स्थान को भरने के लिए उपयुक्त शब्द का चयन करें।

प्रत्येक कमरे में _____ लगा दो।

- Ans 1. फल
 2. ताले
 3. मुर्गे
 4. सब्जी

Question ID : 9895803957
Chosen Option : 2

Q.1
6 निम्नलिखित में से उस विकल्प का चयन करें जो 'टस से मस न होना' मुहावरे का अर्थ व्यक्त करता है।

- Ans 1. साफ मना करना
 2. कुछ असर न पड़ना
 3. बहाना बनाना
 4. घर से बाहर न जाना

Question ID : 9895803972
Chosen Option : 2

Comprehension:

निम्नलिखित गद्यांश के रिक्त स्थानों की पूर्ति गद्यांश के नीचे दिए गए प्रश्नों के अनुसार कीजिए -

जीवन नदी की _____ (1) के समान है। _____ (2) जीवन है और ठहराव मृत्यु। _____ (3) आगे बढ़ते रहने में ही सुख और आनंद है। आगे बढ़ने में जो तत्व काम करता है वह है _____ (4)। समय के साथ चलनेवाले ही _____ (5) होते हैं।

SubQuestion No : 17

Q.1
7 गद्यांश में संकेतित रिक्त स्थान (1) के लिए उपयुक्त शब्द होगा

- Ans 1. सीपी
 2. टापू
 3. रेत

✓ 4. धारा

Question ID : 9895803962

Chosen Option : 4

Comprehension:

निम्नलिखित गद्यांश के रिक्त स्थानों की पूर्ति गद्यांश के नीचे दिए गए प्रश्नों के अनुसार कीजिए -

जीवन नदी की _____ (1) के समान है। _____ (2) जीवन है और ठहराव मृत्यु। _____ (3) आगे बढ़ते रहने में ही सुख और आनंद है। आगे बढ़ने में जो तत्व काम करता है वह है _____ (4)। समय के साथ चलनेवाले ही _____ (5) होते हैं।

SubQuestion No : 18

Q.1
8 गद्यांश में संकेतित रिक्त स्थान (2) के लिए उपयुक्त शब्द होगा

- Ans
- 1. दौड़ना
 - 2. बहना
 - 3. रुकना
 - 4. ठहरना

Question ID : 9895803963

Chosen Option : 1

Comprehension:

निम्नलिखित गद्यांश के रिक्त स्थानों की पूर्ति गद्यांश के नीचे दिए गए प्रश्नों के अनुसार कीजिए -

जीवन नदी की _____ (1) के समान है। _____ (2) जीवन है और ठहराव मृत्यु। _____ (3) आगे बढ़ते रहने में ही सुख और आनंद है। आगे बढ़ने में जो तत्व काम करता है वह है _____ (4)। समय के साथ चलनेवाले ही _____ (5) होते हैं।

SubQuestion No : 19

Q.1
9 गद्यांश में संकेतित रिक्त स्थान (3) के लिए उपयुक्त शब्द होगा

- Ans
- 1. निरंतर
 - 2. थोड़े अन्तराल पर
 - 3. रुक-रुककर
 - 4. कभी-कभी

Question ID : 9895803964

Chosen Option : 1

Comprehension:

निम्नलिखित गद्यांश के रिक्त स्थानों की पूर्ति गद्यांश के नीचे दिए गए प्रश्नों के अनुसार कीजिए -

जीवन नदी की _____ (1) के समान है। _____ (2) जीवन है और ठहराव मृत्यु। _____ (3) आगे बढ़ते रहने में ही सुख और आनंद है। आगे बढ़ने में जो तत्व काम करता है वह है _____ (4)। समय के साथ चलनेवाले ही _____ (5) होते हैं।

SubQuestion No : 20

Q.2
0 गद्यांश में संकेतित रिक्त स्थान (4) के लिए उपयुक्त शब्द होगा

- Ans
- 1. चरित्र
 - 2. समय
 - 3. परिधान
 - 4. जगह

Question ID : 9895803965
Chosen Option : 2

Comprehension:

निम्नलिखित गद्यांश के रिक्त स्थानों की पूर्ति गद्यांश के नीचे दिए गए प्रश्नों के अनुसार कीजिए -

जीवन नदी की _____ (1) के समान है। _____ (2) जीवन है और ठहराव मृत्यु। _____ (3) आगे बढ़ते रहने में ही सुख और आनंद है। आगे बढ़ने में जो तत्व काम करता है वह है _____ (4)। समय के साथ चलनेवाले ही _____ (5) होते हैं।

SubQuestion No : 21

Q.2
1 गद्यांश में संकेतित रिक्त स्थान (5) के लिए उपयुक्त शब्द होगा

- Ans
- 1. कामयाब
 - 2. उत्तीर्ण
 - 3. नाकामयाब
 - 4. ताकतवर

Question ID : 9895803966
Chosen Option : 1

Q.2
2 दिए गए वाक्य का वह भाग ज्ञात करें जिसमें कोई त्रुटि है।

कंप्यूटर के आने से सबसे बड़ा परिवर्तन मिडिया जगत में आई है।

- Ans
- 1. कंप्यूटर के आने से
 - 2. सबसे बड़ा परिवर्तन
 - 3. आई है।
 - 4. मिडिया जगत में

Question ID : 9895803952
Chosen Option : 3

Q.2
3 रिक्त स्थान को भरने के लिए उपयुक्त शब्द का चयन करें।

हमेशा सत्य की ही _____ होती है।

- Ans
- 1. जीत
 - 2. तेजी
 - 3. मौत
 - 4. धर्म

Question ID : 9895803960
Chosen Option : 1

Q.2
4 दिए गए वाक्य में रेखांकित खंड को प्रतिस्थापित करने के लिए उपयुक्त विकल्प का चयन करें।

रमेश अपने चालाकी से किसी को आगे नहीं आने दिया।

- Ans
- 1. अपना चालाकी से
 - 2. अपनों चालाकी से
 - 3. अपनी चालाकी से
 - 4. आपने चालाकी से

Question ID : 9895803956
Chosen Option : 3

Q.2
5 दिए गए शब्द के पर्यायवाची शब्द का चयन करें।

चंद्रमा

- Ans
- 1. शशि
 - 2. शशिकला
 - 3. रवि
 - 4. अनुराग

Question ID : 9895803970
Chosen Option : 1

Constable (GD) in CAPFs, NIA, SSF and Rifleman (GD) in Assam Rifles Examination, 2018

Roll No. :	
Registration No.	
Name :	
Exam Venue :	
Exam Time :	12:30 PM - 2:00 PM
Exam Date :	14/02/2019

Section : General Section

Q.1 नीचे दिए गए कथनों के बाद दो निष्कर्ष I और II दिए गए हैं। यह मानते हुए कि कथनों में दी गई जानकारी सत्य है, भले ही वह सर्वज्ञात तथ्यों से भिन्न प्रतीत होती हो और यह निर्णय करें कि कौन सा / से निष्कर्ष तार्किक और निश्चित रूप से कथन में दी गई जानकारी का अनुसरण करता है / करते हैं।

कथन:

- 1) सभी शूरवीर मठवासिनी (नन) हैं।
- 2) सभी मठवासिनियाँ पुरुष हैं।

निष्कर्ष:

- I. सभी पुरुष शूरवीर हैं।
- II. कुछ शूरवीर पुरुष हैं।

Ans

1. केवल निष्कर्ष I अनुसरण करता है।
2. केवल निष्कर्ष II अनुसरण करता है।
3. या तो निष्कर्ष I या निष्कर्ष II अनुसरण करता है।
4. दोनों निष्कर्ष अनुसरण करते हैं।

Question ID : 9895802912
Chosen Option : 3

Q.2 उस विकल्प का चयन करें जो तीसरे पद से उसी प्रकार से संबंधित है जिस प्रकार दूसरा पद पहले पद से संबंधित है।

DEH : HIL :: GHJ : ?

Ans

1. KJP
2. KPL
3. KLO
4. KLP

Question ID : 9895802906
Chosen Option : 4

Q.3 आठ मित्र A, B, C, D, E, F, G और H एक गोलाकार मेज के चारों ओर एक-दूसरे के तरफ मुंह करके भोजन कर रहे हैं। A, F के सामने और B के दाएँ ओर से तीसरे स्थान पर है। G, F और D के बीच में है। H, D के बाएँ ओर है, E, C और A के बीच में है। H के सामने कौन बैठा है?

Ans

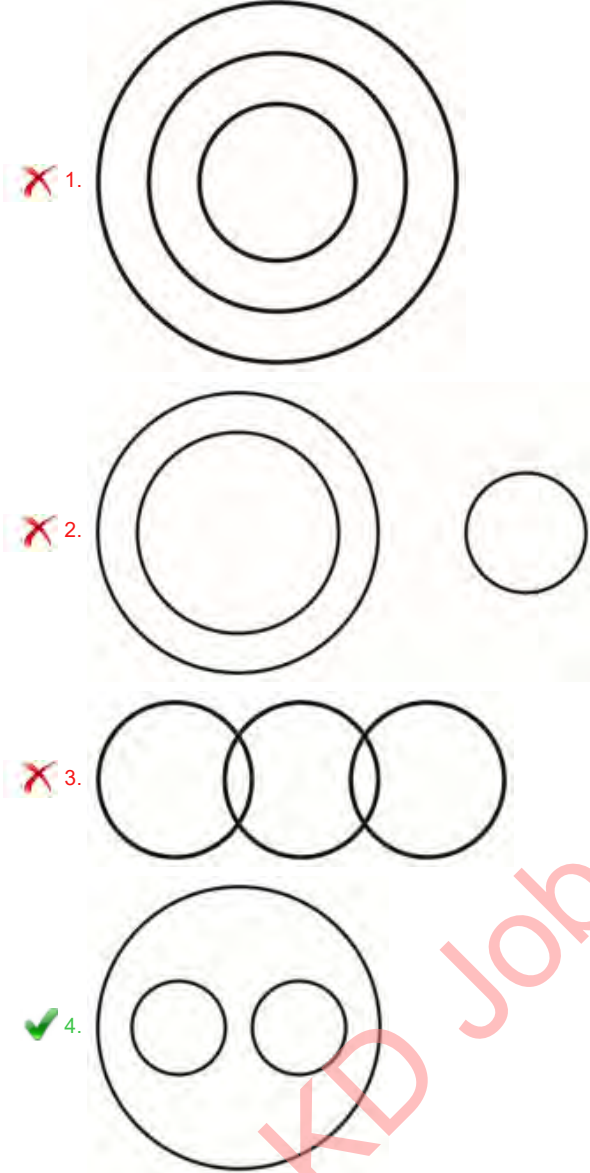
1. G
2. C
3. B
4. D

Question ID : 9895802910
Chosen Option : 2

Q.4 निम्नलिखित में से कौन सा वेन रेखाचित्र दिए गए वर्ग के बीच के संबंध को सही दर्शाता है?

इकाई, वॉट, वोल्ट

Ans



Question ID : 9895802925
Chosen Option : 4

Q.5 उस विकल्प का चयन करें जो तीसरे पद से उसी प्रकार से संबंधित है जिस प्रकार दूसरा पद पहले पद से संबंधित है।

बावर्ची : चाकू :: शल्यचिकित्सक : ?

Ans

1. फावड़ा
2. पकड़/मूठ
3. छेनी
4. छुरी/स्केलपेल

Question ID : 9895802905
Chosen Option : 3

Q.6

उस विकल्प का चयन करें जो दी गई श्रृंखला में प्रश्न चिह्न (?) के स्थान पर आएगा।

9, 20, 42, 75, ?

- Ans
- 1. 99
 - 2. 119
 - 3. 109
 - 4. 129

Question ID : 9895802914
Chosen Option : 2

Q.7 उस विकल्प का चयन करें जो दी गई श्रृंखला में प्रश्न चिह्न (?) के स्थान पर आएगा।

20, 24, 40, 76, ?

- Ans
- 1. 140
 - 2. 130
 - 3. 145
 - 4. 120

Question ID : 9895802915
Chosen Option : 1

Q.8 उस विकल्प का चयन करें जो दिए गए पैटर्न में प्रश्न चिह्न (?) के स्थान पर आएगा।

9	81	?
25	121	289
49	169	361

- Ans
- 1. 256
 - 2. 125
 - 3. 729
 - 4. 225

Question ID : 9895802918
Chosen Option : 4

Q.9 पैटर्न के साथ एक वर्गाकार पारदर्शी कागज पत्रक दिया गया है। पारदर्शी कागज पत्रक को बिंदुंकित रेखा पर मोड़ें जाने पर पैटर्न कैसा दिखाई देगा?



- Ans
- 1.
 - 2.
 - 3.



Question ID : 9895802924
Chosen Option : 2

Q.1 0 J, K L, M, N और O छः शिक्षक हैं। इनमें से प्रत्येक शिक्षक हिंदी, अंग्रेजी, गणित, विज्ञान, सामाजिक विज्ञान और कला में से अलग-अलग विषय पढ़ाता है, जरूरी नहीं कि इसी क्रम में। प्रत्येक शिक्षक सोमवार से शनिवार के बीच एक दिन ही पढ़ाता है, जरूरी नहीं कि इसी क्रम में। J शनिवार को कला पढ़ाता है। L न तो अंग्रेजी पढ़ाता है न ही सामाजिक विज्ञान, पर वह गुरुवार को पढ़ाता है। बुधवार के दिन K द्वारा गणित पढ़ाया जाता है। O, N के एक दिन पहले विज्ञान पढ़ाता है। सामाजिक विज्ञान, कला के एक दिन पहले पढ़ाया जाता है। सामाजिक विज्ञान और गणित पढ़ाए जाने वाले दिनों के बीच आने वाले दिन कौन सा विषय पढ़ाया जाता है?

- Ans
- 1. अंग्रेजी
 - 2. कला
 - 3. विज्ञान
 - 4. हिंदी

Question ID : 9895802911
Chosen Option : 3

Q.1 1 एक निश्चित कूट भाषा में CIRCLE को 50 के रूप में लिखा जाता है। उसी कूट भाषा में ALGAE को कैसे लिखा जाएगा?

- Ans
- 1. 57
 - 2. 26
 - 3. 23
 - 4. 59

Question ID : 9895802908
Chosen Option : 2

Q.1 2 उस विकल्प का चयन करें जो तीसरे पद से उसी प्रकार से संबंधित है जिस प्रकार दूसरा पद पहले पद से संबंधित है।
हवाई जहाज : हैंगर :: बन्दूक : ?

- Ans
- 1. मानव
 - 2. गोली मारना
 - 3. शस्त्रागार
 - 4. दागना

Question ID : 9895802904
Chosen Option : 4

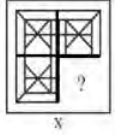
Q.1 3 दिए गए विकल्पों में से असंगत का चयन करें।

- Ans
- 1. KVG
 - 2. EKO
 - 3. QMJ
 - 4. JIU

Question ID : 9895802902
Chosen Option : 4

Q.1
4

दिए गए चार विकल्पों में से उस आकृति को चुनें, जिसे आकृति X के रिक्त स्थान में (बिना घुमाए) रखने पर पैटर्न पूरा हो जाएगा।



Ans

1.
2.
3.
4.

Question ID : 9895802921

Chosen Option : 4

Q.1 5 उस विकल्प का चयन करें जो दी गई श्रृंखला में प्रश्न चिह्न (?) के स्थान पर सही रूप में आएगा।

SNC, QPA, ORY, MTW, ?

- Ans
1. KVV
2. KVV
3. KUU
4. KUV

Question ID : 9895802901

Chosen Option : 2

Q.1 6 उस विकल्प का चयन करें जो दर्पण के दाएँ ओर रखे जाने पर शब्द की दी गई दर्पण छवि से सर्वाधिक मेल खाता है।

VOCATION

- Ans
1.
2.
3.
4.

Question ID : 9895802923

Chosen Option : 2

Q.1 7 निम्नलिखित समीकरण को सही करने के लिए विकल्पों में दिए गए किन दो चिहनों को परस्पर बदला जाना चाहिए?

$$30 + 28 \times 3 - 16 + 4 = -50$$

- Ans
1. \times और \div

2. - और ×
3. + और -
4. - और ÷

Question ID : 9895802919
Chosen Option : 4

Q.1 सात मित्र O, P, Q, R, S, T और U एक पंक्ति में बैठ कर फिल्म देख रहे हैं। S एक छोर पर बैठा है। Q, S के दाएँ ओर से दूसरे स्थान पर बैठा है। P, O और Q के बीच में बैठा है। U किसी भी छोर पर नहीं बैठा है। R, T के बाएँ ओर बैठा है। P और R के बीच कौन बैठा है?

- Ans 1. U
2. O
3. R
4. Q

Question ID : 9895802909
Chosen Option : 2

Q.1 उस विकल्प का चयन करें जो तीसरी संख्या से उसी प्रकार से संबंधित है जिस प्रकार दूसरी संख्या पहली संख्या से संबंधित है।

22 : 242 :: 18 : ?

- Ans 1. 169
2. 221
3. 275
4. 162

Question ID : 9895802916
Chosen Option : 4

Q.2 नीचे दिए गए कथनों के बाद दो निष्कर्ष I और II दिए गए हैं। यह मानते हुए कि कथनों में दी गई जानकारी सत्य है, भले ही वह सर्वज्ञात तथ्यों से भिन्न प्रतीत होती हो और यह निर्णय करें कि कौन सा / से निष्कर्ष तार्किक और निश्चित रूप से कथन में दी गई जानकारी का अनुसरण करता है / करते हैं।

कथन:

- 1) कुछ चूहे व्हेन हैं।
- 2) सभी व्हेन कुत्ते हैं।

निष्कर्ष:

- I. कुछ चूहे कुत्ते हैं।
- II. कोई चूहा कुत्ता नहीं है।

- Ans 1. न तो निष्कर्ष I और न ही निष्कर्ष II अनुसरण करता है।
2. दोनों निष्कर्ष अनुसरण करते हैं।
3. केवल निष्कर्ष II अनुसरण करता है।
4. केवल निष्कर्ष I अनुसरण करता है।

Question ID : 9895802913
Chosen Option : 4

Q.2 एक निश्चित कूट भाषा में WORKER को OKROKR के रूप में लिखा जाता है। उसी कूट भाषा में ASSUME को कैसे लिखा जाएगा?

- Ans 1. SUESUE

2. SUESVE
 3. SUMSUM
 4. SSESSE

Question ID : 9895802907
 Chosen Option : 3

Q.2 विकल्पों में से उस आकृति का चयन करें जिसमें 'X' से चिह्नित आकृति समाहित है। (घुमाने की अनुमति नहीं है)



Ans

- 1.
- 2.
- 3.
- 4.

Question ID : 9895802922
 Chosen Option : 4

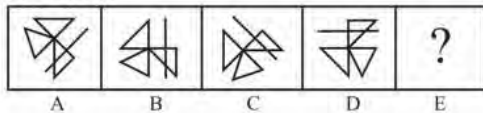
Q.2 दिए गए विकल्पों में से असंगत संख्या का चयन करें।

- Ans 1. 27
 2. 625
 3. 125
 4. 343

Question ID : 9895802917
 Chosen Option : 2

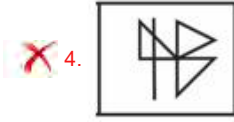
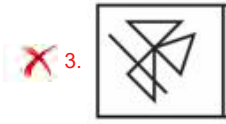
Q.2 विकल्पों में से उस आकृति का चयन करें जो दी गई श्रृंखला में अगले स्थान पर आएगी।

Problem Fig.



Ans

- 1.
- 2.



Question ID : 9895802920
Chosen Option : 2

Q.2
5 दिए गए विकल्पों में से असंगत का चयन करें।

- Ans 1. एशिया
 2. कनाडा
 3. चाइना
 4. कोलंबिया

Question ID : 9895802903
Chosen Option : 1

Q.2
6 'करो या मरो' भारत में किस प्रसिद्ध आंदोलन का नारा था?

- Ans 1. रौलट आंदोलन
 2. असहयोग आंदोलन
 3. भारत छोड़ो आंदोलन
 4. सविनय अवज्ञा आंदोलन

Question ID : 9895804849
Chosen Option : 3

Q.2
7 निम्नलिखित में से किसने राज-दरबार में सिजदा (साष्टांग प्रणाम) और पैबोस (समाट के पैरों को चूमने) की प्रथा शुरू की थी?

- Ans 1. घियासुद्दीन बलबन
 2. अलाउद्दीन खिलजी
 3. मुहम्मद बिन तुघलक
 4. फिरोज़ शाह तुघलक

Question ID : 9895804851
Chosen Option : 4

Q.2
8 किसी देश में जीवन स्तर (शैली) को दर्शाने के लिए निम्न में से कौन सा एक मापदंड है?

- Ans 1. राष्ट्रीय आय
 2. गरीबी का अनुपात
 3. औद्योगिक विकास
 4. प्रति व्यक्ति आय

Question ID : 9895804857

Chosen Option : 1

Q.2
9 देशों के बीच तेजी से एकीकरण को किस रूप में जाना जाता है?

- Ans
- 1. वैश्वीकरण
 - 2. निजीकरण
 - 3. आधुनिकीकरण
 - 4. उदारीकरण

Question ID : 9895804855

Chosen Option : 3

Q.3
0 किस घरेलू कचरे में रीसाइक्लिंग (पुनर्चक्रण) की एक उत्कृष्ट संभाविता है?

- Ans
- 1. प्लास्टिक
 - 2. रबर
 - 3. सब्जी के छिलके
 - 4. धातु

Question ID : 9895804859

Chosen Option : 3

Q.3
1 निम्नलिखित में से किस उत्पाद को भारत में पहला भौगोलिक संकेत (जीआई) प्राप्त हुआ?

- Ans
- 1. जोहा चावल
 - 2. दार्जिलिंग चाय
 - 3. मिजो मिर्च
 - 4. रतलामी सेव

Question ID : 9895804846

Chosen Option : 2

Q.3
2 राष्ट्रीय मानवाधिकार आयोग के बारे में निम्नलिखित में से कौन सा कथन सही है?

- Ans
- 1. उसकी सत्ता स्वरूप में केवल सिफारिशी (संस्तुतिपरक) हैं।
 - 2. उस में 10 सदस्य हैं।
 - 3. मुंबई में इसका मुख्यालय स्थित है।
 - 4.
- उसका अध्यक्ष सर्वोच्च न्यायालय में आसीन न्यायाधीश होना आवश्यक है।

Question ID : 9895804867

Chosen Option : 4

Q.3
3 'म्युटेशन (उत्परिवर्तन)' शब्द का अर्थ क्या है?

- Ans
- 1. आनुवंशिक गलती

- 2. आनुवंशिक सुधार
- 3. आनुवंशिक स्थानान्तरण
- 4. आनुवंशिक रेखा

Question ID : 9895804861
Chosen Option : 4

Q.3
4 "डबल फॉल्ट" शब्द का प्रयोग किस खेल में किया जाता है?

- Ans
- 1. कबड्डी
 - 2. वॉलीबाल
 - 3. स्नूकर
 - 4. टेनिस

Question ID : 9895804848
Chosen Option : 1

Q.3
5 दक्षिण अफ्रीका के शीतोष्ण घास के मैदानों को किस नाम से जाने जाते हैं?

- Ans
- 1. वेल्ड्स
 - 2. डॉवन्स
 - 3. प्रेरिज़
 - 4. पंपास

Question ID : 9895804853
Chosen Option : 4

Q.3
6 किंग खालिद इंटरनेशनल एयरपोर्ट किस देश में कार्यरत है?

- Ans
- 1. इराक
 - 2. बहरीन
 - 3. सीरिया
 - 4. सऊदी अरब

Question ID : 9895804852
Chosen Option : 2

Q.3
7 _____ बांग्लादेश में स्थापित एक माइक्रोफाइनेंस संगठन और सामुदायिक विकास बैंक है, जो समपाश्वर्की आवश्यकता के बिना गरीबों को छोटे ऋण देता है।

- Ans
- 1. ग्रामीण बैंक
 - 2. फेडरल बैंक
 - 3. रिजर्व बैंक
 - 4. सहकारी बैंक

Question ID : 9895804856
Chosen Option : 4

Q.3
8 निम्नलिखित में से कौन सा 2030 तक प्राप्त करने के लिए लक्षित एक चिरस्थायी विकास लक्ष्य नहीं है?

- Ans
- 1. अंतरिक्ष अनुसंधान
 - 2. अच्छा स्वास्थ्य और तंदुरस्ती
 - 3. लैंगिक समानता
 - 4. शून्य भूख

Question ID : 9895804864
Chosen Option : 4

Q.3
9 _____ का व्यापक रूप से ईंधन के रूप में उपयोग किया जाता है और वह दबे हुए (कॉम्प्रेस्ड) प्राकृतिक गैस का एक प्रमुख घटक है।

- Ans
- 1. ब्यूटेन
 - 2. प्रोपेन
 - 3. मीथेन
 - 4. ओक्टेन

Question ID : 9895804862
Chosen Option : 1

Q.4
0 इनमें से हवा की नमी को किससे मापा जाता है?

- Ans
- 1. हाइड्रोमीटर
 - 2. थर्मोमीटर
 - 3. माइक्रोमीटर
 - 4. हाइग्रोमीटर

Question ID : 9895804858
Chosen Option : 2

Q.4
1 2011 की जनगणना के अनुसार, भारत में मुसलमानों का कुल प्रतिशत कितना है?

- Ans
- 1. 14.2
 - 2. 10.2
 - 3. 12.4
 - 4. 16.6

Question ID : 9895804866
Chosen Option : 2

Q.4
2 किस IUCN दस्तावेज़ में वनस्पतियों और जीवों की लुप्तप्राय प्रजातियों की सूची दी जाती है?

- Ans
- 1. लाल सूची
 - 2. हरी सूची
 - 3. काली सूची
 - 4. नीली सूची

Question ID : 9895804860
Chosen Option : 2

Q.4
3 प्रतिष्ठित लॉरियस वर्ल्ड स्पोर्ट्स अवार्ड किस भारतीय खिलाड़ी को दिया गया था?

- Ans
- 1. विनेश फोगट
 - 2. दुती चंद
 - 3. पंकज आडवाणी
 - 4. अनिर्बान चटर्जी

Question ID : 9895804863
Chosen Option : 3

Q.4
4 निम्नलिखित में से किस देश ने पुरुष हॉकी विश्व कप 2018 जीता था?

- Ans
- 1. पाकिस्तान
 - 2. न्यूजीलैंड
 - 3. अर्जेंटीना
 - 4. बेल्जियम

Question ID : 9895804847
Chosen Option : 2

Q.4
5 डोइडाबेट्टा निम्नलिखित में से किस पर्वत श्रृंखला का सर्वोच्च शिखर है?

- Ans
- 1. विंध्य
 - 2. सतपुड़ा
 - 3. नीलगिरी
 - 4. अरावली

Question ID : 9895804854
Chosen Option : 4

Q.4
6 1526 में बाबर ने इब्राहिम लोधी को कहाँ हराया था?

- Ans
- 1. चौसा
 - 2. हल्दीघाटी
 - 3. पानीपत
 - 4. कालिंजर

Question ID : 9895804850
Chosen Option : 3

Q.4
7 पंचायती राज संस्थाएँ किस अधिनियम के अंतर्गत अस्तित्व में आयीं?

- Ans
- 1. 42 वाँ और 43 वाँ संशोधन अधिनियम
 - 2. 73 वाँ और 74 वाँ संशोधन अधिनियम

3. 63 वाँ और 64 वाँ संशोधन अधिनियम

4. 86 वाँ और 87 वाँ संशोधन अधिनियम

Question ID : 9895804868
Chosen Option : 1

Q.4
8 वर्ल्ड एनर्जी आउटलुक (विश्व ऊर्जा दृष्टिकोण) किस के द्वारा जारी होता है?

Ans 1. अंतर्राष्ट्रीय ऊर्जा एजेंसी

2. अंतर्राष्ट्रीय ऊर्जा अधिकरण

3. विश्व आर्थिक मंच

4. अंतर्राष्ट्रीय ऊर्जा संगठन

Question ID : 9895804865
Chosen Option : 4

Q.4
9 शृंगारिक मूर्तियां वाली वास्तुकला की नागर शैली के लिए कौन से मंदिर सुप्रसिद्ध हैं?

Ans 1. हम्पी

2. मीनाक्षी

3. सोमनाथ

4. खजुराहो

Question ID : 9895804844
Chosen Option : 1

Q.5
0 यूनेस्को की विश्व धरोहर सूची में स्थान बनाने वाला पहला भारतीय शहर कौन सा है?

Ans 1. इंदौर

2. अहमदाबाद

3. भुवनेश्वर

4. बेंगलुरु

Question ID : 9895804845
Chosen Option : 2

Q.5
1 एक वस्तु का अंकित मूल्य ₹ 1200 है तथा 31% की छूट दी गई है। यदि लाभ 15% है, तो क्रय मूल्य क्या होगा?

Ans 1. ₹ 704

2. ₹ 720

3. ₹ 748

4. ₹ 640

Question ID : 9895804772
Chosen Option : 2

Q.5
2 एक वस्तु के विक्रय मूल्य तथा क्रय मूल्य 7 : 5 के अनुपात में है। लाभ/हानि प्रतिशत क्या होगा?

Ans

1. 20% हानि
 2. 40% लाभ
 3. 14.28% हानि
 4. 28.5% लाभ

Question ID : 9895804776
 Chosen Option : 4

Q.5 एक कालोनी में बच्चे, महिलाएं तथा पुरुषों की संख्या का अनुपात क्रमशः 6 : 4 : 3 है तथा कालोनी में न्यूनतम सदस्य 200 है। कालोनी में बच्चों की न्यूनतम संख्या क्या होगी?

- Ans 1. 72
 2. 64
 3. 96
 4. 48

Question ID : 9895804778
 Chosen Option : 3

Q.5 $80 \div 40 - 10 - 5 \times 4$ का $\left(\frac{1}{3} \div \frac{10}{3}\right)$ का मान क्या है?

- Ans 1. $\frac{40}{3}$
 2. -10
 3. $\frac{22}{5}$
 4. -12

Question ID : 9895804768
 Chosen Option : 3

Q.5 $\left[88 - 44 \div (22 \times 4) \text{ का } \left(\frac{1}{2} - \frac{1}{4} \div \frac{1}{8}\right)\right]$ का मान क्या है?

- Ans 1. $\frac{711}{3}$
 2. $\frac{514}{9}$
 3. $\frac{265}{3}$
 4. $\frac{703}{9}$

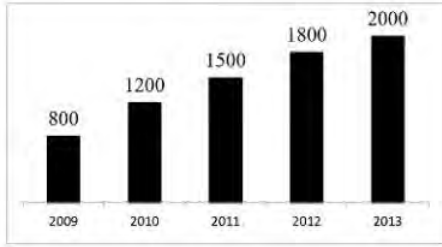
Question ID : 9895804769
 Chosen Option : 1

Q.5 मनीष 40 कि.मी./घंटा की गति से अपने गृहनगर जाता है तथा Y कि.मी./घंटा की गति से अपने घर वापस आता है। उसके घर तथा गृहनगर के मध्य दूरी 360 कि.मी. है। यदि वह कुल 21 घंटे लेता है, तो Y का मान क्या है?

- Ans 1. 30 कि.मी./घंटा
 2. 33 कि.मी./घंटा
 3. 28 कि.मी./घंटा
 4. 25 कि.मी./घंटा

Question ID : 9895804784
Chosen Option : 3

Q.5 नीचे दिए गए बार चार्ट में 2009 से 2013 के वर्षों के लिए एक देश के कॉफी के वार्षिक उत्पादन (1000 टन में) को दर्शाया गया है।

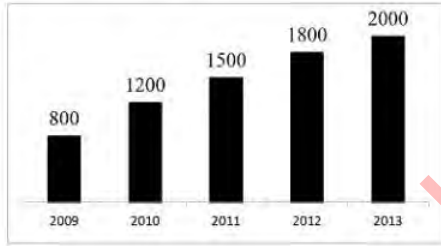


वर्ष 2009 से 2011 तक कॉफी का औसत उत्पादन (1000 टन में) क्या है?

- Ans
- 1. 1466.67
 - 2. 1166.67
 - 3. 1366.67
 - 4. 1233.33

Question ID : 9895804790
Chosen Option : 2

Q.5 नीचे दिए गए बार चार्ट में 2009 से 2013 के वर्षों के लिए एक देश के कॉफी के वार्षिक उत्पादन (1000 टन में) को दर्शाया गया है।



वर्ष 2011 के लिए उत्पादन 2009 के लिए उत्पादन का कितना प्रतिशत है?

- Ans
- 1. 205.25%
 - 2. 157.5%
 - 3. 175.25%
 - 4. 187.5%

Question ID : 9895804789
Chosen Option : 3

Q.5 एक आयत की लंबाई 16 से.मी. है। यदि विकर्ण की लंबाई 20 से.मी. है, तो आयत की चौड़ाई क्या होगी?

- Ans
- 1. 12 से.मी.
 - 2. 10 से.मी.
 - 3. 8 से.मी.
 - 4. 14 से.मी.

Question ID : 9895804786
Chosen Option : 1

Q.6

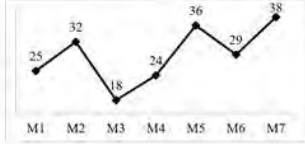
0 एक ठोस घनाभ की लंबाई, चौड़ाई तथा ऊँचाई क्रमशः 14 से.मी., 12 से.मी. तथा 8 से.मी. है। यदि घनाभ को पिघलाकर 2 से.मी. वाले समान घन बनाए जाते हैं, तो समान घन की संख्या कितनी होगी?

- Ans
- 1. 144
 - 2. 156
 - 3. 128
 - 4. 168

Question ID : 9895804788

Chosen Option : 4

Q.6 नीचे दिया गया रेखा चित्र 7 विभिन्न माह में कारों के उत्पादन (10000 में) को दर्शाता है।



M4 महीने में कारों का उत्पादन, M2 महीने में कारों के उत्पादन का कितना प्रतिशत है?

- Ans
- 1. 125%
 - 2. 83.33%
 - 3. 66.66%
 - 4. 75%

Question ID : 9895804791

Chosen Option : 4

Q.6 P तथा Q मिलकर एक कार्य को 20 दिन में पूरा कर सकते हैं। यदि P अकेला समान कार्य को 36 दिन में पूरा कर सकता है, तो Q अकेला समान कार्य को कितने दिन में पूरा कर सकता है?

- Ans
- 1. 45 दिन
 - 2. 42 दिन
 - 3. 51 दिन
 - 4. 48 दिन

Question ID : 9895804783

Chosen Option : 1

Q.6 पाइप C एक टैंक को 12 घंटे में भर सकता है तथा पाइप D उस टैंक को 40 घंटे में भर सकता है। पाइप C तथा D दोनों मिलकर उस टैंक को कितने घंटे में भर सकते हैं?

- Ans
- 1. $\frac{120}{11}$ घंटे
 - 2. $\frac{120}{13}$ घंटे
 - 3. $\frac{60}{11}$ घंटे
 - 4. $\frac{60}{7}$ घंटे

Question ID : 9895804782

Chosen Option : 2

Q.6 ₹ 4650 कि एक राशि साधारण ब्याज से उधार दी जाती है। यदि वार्षिक ब्याज दर 7.5% है, तो 4 वर्षों के लिए साधारण ब्याज क्या होगा?

- Ans
- 1. ₹ 1495

2. ₹ 1300

3. ₹ 1395

4. ₹ 1295

Question ID : 9895804780
Chosen Option : 3

Q.6 एक पार्किंग में सभी वाहनों का औसत वजन 4000 कि.ग्रा. है। 12 वाहनों का औसत वजन 6000 कि.ग्रा. है।
5 शेष वाहनों का औसत वजन 3000 कि.ग्रा. है। पार्किंग में वाहनों की कुल संख्या कितनी है?

Ans 1. 36

2. 30

3. 40

4. 20

Question ID : 9895804771
Chosen Option : 1

Q.6 प्लेटफार्म की लम्बाई रेलगाड़ी की लम्बाई की दोगुनी है। रेलगाड़ी की गति 144 कि.मी./घंटा है। यदि रेलगाड़ी प्लेटफार्म
6 को 30 सेकण्ड में पार करती है, तो प्लेटफार्म की लम्बाई क्या है?

Ans 1. 400 मीटर

2. 500 मीटर

3. 600 मीटर

4. 800 मीटर

Question ID : 9895804785
Chosen Option : 3

Q.6 यदि एक आयत की लम्बाई को 50% बढ़ाया जाए तथा चौड़ाई को 25% घटाया जाए, तो उसके क्षेत्रफल में कितने
7 प्रतिशत की वृद्धि होगी?

Ans 1. 17.5%

2. 25%

3. 12.5%

4. 15%

Question ID : 9895804774
Chosen Option : 3

Q.6 ₹ 11700 की एक राशि चक्रवृद्धि ब्याज दर से 2 वर्षों में ₹ 16848 हो जाती है। यदि ब्याज का संयोजन वार्षिक किया
8 गया है, तो ब्याज दर क्या होगी?

Ans 1. 15%

2. 25%

3. 17.5%

4. 20%

Question ID : 9895804781
Chosen Option : 1

Q.6
9 दिए गए आंकड़ों का माध्यक क्या है?

1, 3, 6, 2, 5, 8, 3, 8, 2

Ans 1. 3

2. 2.5
3. 5
4. 2

Question ID : 9895804773
Chosen Option : 3

Q.7 0 एक वर्ग का विकर्ण 14 से.मी. है। उस वर्ग के विकर्ण की लंबाई क्या होगी जिसका क्षेत्रफल पहले वर्ग के क्षेत्रफल का दोगुना है?

- Ans 1. $21\sqrt{2}$ से.मी.
2. 28 से.मी.
3. $14\sqrt{2}$ से.मी.
4. $28\sqrt{2}$ से.मी.

Question ID : 9895804787
Chosen Option : 4

Q.7 1 टीना, रीना तथा शीना क्रमशः ₹ 24000, ₹ 28000 तथा ₹ 20000 के निवेश के साथ एक व्यापार शुरू करती हैं। टीना 8 महीने के लिए निवेश करती है, रीना 10 महीने के लिए निवेश करती है तथा शीना एक वर्ष के लिए निवेश करती है। यदि वर्ष के अंत में कुल लाभ ₹ 25810 है, तो टीना का हिस्सा क्या है?

- Ans 1. ₹ 8700
2. ₹ 7940
3. ₹ 6960
4. ₹ 10150

Question ID : 9895804779
Chosen Option : 3

Q.7 2 पहली वस्तु का विक्रय मूल्य ₹ 470 है तथा दूसरी वस्तु का क्रय मूल्य ₹ 470 है। यदि पहली वस्तु पर 20% लाभ होता है तथा दूसरी वस्तु पर 20% हानि होती है, तो कुल लाभ अथवा हानि प्रतिशत क्या होगा?

- Ans 1. 4% लाभ
2. ना लाभ ना हानि
3. 1.80% हानि
4. 2.22% हानि

Question ID : 9895804775
Chosen Option : 2

Q.7 3 चार संख्याएँ क्रमशः 2 : 5 : 3 : 8 के अनुपात में हैं। यदि इन चार संख्याओं का योग 432 है, तो पहली तथा चौथी संख्या का योग क्या है?

- Ans 1. 192
2. 240
3. 232
4. 216

Question ID : 9895804777
Chosen Option : 2

Q.7 4 12 लड़कों और 8 लड़कियों का कुल वजन 1080 कि.ग्रा. है। यदि लड़कों का औसत वजन 50 कि.ग्रा. है, तो लड़कियों का औसत वजन क्या होगा?

- Ans
- 1. 45 कि.ग्रा.
 - 2. 60 कि.ग्रा.
 - 3. 55 कि.ग्रा.
 - 4. 50 कि.ग्रा.

Question ID : 9895804770
Chosen Option : 2

Q.7 दो संख्याओं का लघुत्तम समापवर्त्य तथा महत्तम समापवर्तक क्रमशः 60 तथा 3 है। यदि उनका अंतर 3 है, तो इन दो संख्याओं का योग क्या होगा?

- Ans
- 1. 24
 - 2. 35
 - 3. 21
 - 4. 27

Question ID : 9895804767
Chosen Option : 4

Section : English Language

Q.1 Select the antonym of the given word.

HIDEOUS

- Ans
- 1. Ugly
 - 2. Secretive
 - 3. Detestable
 - 4. Beautiful

Question ID : 9895804478
Chosen Option : --

Q.2 Select the antonym of the given word.

BLESS

- Ans
- 1. Sanctify
 - 2. Purify
 - 3. Wish
 - 4. Curse

Question ID : 9895804479
Chosen Option : --

Q.3 Select the word which means the same as the group of words given.

Someone who leaves one's country to settle in another country.

- Ans
- 1. Emigrant
 - 2. Explorer
 - 3. Foreigner

4. Tourist

Question ID : 9895804871
Chosen Option : --

Q.4 From the given options, identify the segment in the sentence which contains the grammatical error.

If they had a playground here, they can play after their school is over.

- Ans 1. after their
 2. If they had
 3. they can play
 4. school is over

Question ID : 9895804464
Chosen Option : --

Q.5 Select the option that means the same as the given idiom.

To eat humble pie

- Ans 1. To accept error
 2. To be aggressive
 3. To defend oneself
 4. To deny desperately

Question ID : 9895804481
Chosen Option : --

Q.6 From the given options, identify the segment in the sentence which contains the grammatical error.

Ram always tries to do things very carefully and made sure he does them correctly.

- Ans 1. and made sure
 2. Ram always tries
 3. to do things
 4. does them

Question ID : 9895804463
Chosen Option : --

Q.7 Select the option that means the same as the given idiom.

A red letter day

- Ans 1. A memorable day
 2. A sad day
 3. A boring day
 4. A painful day

Question ID : 9895804480
Chosen Option : --

Q.8 Select the correctly spelt word.

- Ans 1. Gratefull
 2. Greatfull
 3. Grateful
 4. Greatful

Question ID : 9895804485
Chosen Option : --

Q.9 Select the word which means the same as the group of words given.

One who is present everywhere

- Ans 1. Omnivorous
 2. Omniscient
 3. Omnipresent
 4. Omnipotent

Question ID : 9895804483
Chosen Option : --

Q.1 Select the most appropriate option to substitute the underlined segment in the given sentence. If there is no need to substitute it, select No Improvement.

0

Tourists visiting Leh take home photos and memories but leave back a mountain of waste.

- Ans 1. leave behind
 2. left back
 3. No improvement
 4. leave away

Question ID : 9895804465
Chosen Option : --

Q.1 Select the most appropriate option to substitute the underlined segment in the given sentence. If there is no need to substitute it, select No Improvement.

1

On inspection a hundred year old bridge was find being too weak to take the load of lakhs of vehicles everyday.

- Ans 1. has to be found
 2. was found to be
 3. No improvement
 4. was being found

Question ID : 9895804466
Chosen Option : --

Q.1 Select the synonym of the given word.

2

MELODIOUS

- Ans 1. Doleful
 2. Rhythmic
 3. Tuneful
 4. Rattling

Question ID : 9895804477

Chosen Option : --

Q.1 From the given options, identify the segment in the sentence which contains the grammatical error.

3

I said you to prepare the article yesterday but you didn't.

- Ans
- 1. the article
 - 2. you didn't
 - 3. to prepare
 - 4. I said you

Question ID : 9895804462

Chosen Option : --

Q.1 Select the synonym of the given word.

4

AGILE

- Ans
- 1. Lazy
 - 2. Dull
 - 3. Aggressive
 - 4. Active

Question ID : 9895804476

Chosen Option : --

Q.1 Select the most appropriate word to fill in the blank.

5

_____ are to be avoided; they lead to conflict.

- Ans
- 1. Questions
 - 2. Statements
 - 3. Arguments
 - 4. Decisions

Question ID : 9895804487

Chosen Option : --

Q.1 Select the correctly spelt word.

6

- Ans
- 1. Ocassion
 - 2. Occassion
 - 3. Occasion
 - 4. Occation

Question ID : 9895804484

Chosen Option : --

Q.1 Select the most appropriate word to fill in the blank.

7

Just are the _____ of God.

- Ans
- 1. tricks
 - 2. ways

3. deeds

4. plans

Question ID : 9895804486

Chosen Option : --

Q.1 Select the most appropriate option to substitute the underlined segment in the given sentence. If there is no need to substitute it, select No Improvement.

8

Yesterday eleven coaches of a train headed for Delhi was derailed at Vaishali district of Bihar.

Ans 1. were derail at

2. were derailed in

3. was derailed in

4. No improvement

Question ID : 9895804467

Chosen Option : --

Q.1 Select the most appropriate option to fill in the blank.

9

You can visit me on _____ at 7 o'clock.

Ans 1. tomorrow

2. today

3. next month

4. Sunday

Question ID : 9895804468

Chosen Option : --

Q.2 Select the most appropriate option to fill in the blank.

0

Gita won't pass the examination and _____ will Rita.

Ans 1. or

2. neither

3. either

4. nor

Question ID : 9895804469

Chosen Option : --

Comprehension:

In the following passage some words have been deleted. Fill in the blanks with the help of the alternatives given.

The Second Anglo-Maratha War had shattered the (1) _____ of the Maratha chiefs, but not their spirit. The loss of their freedom caused them deep _____ (2). They made a last (3) _____ attempt to regain their independence in 1817. The lead in organising a united front of the Maratha chiefs _____ (4) by the Peshwa who was smarting under the (5) _____ control exercised by the British Resident.

SubQuestion No : 21

Q.2
1 Select the most appropriate option that will fill in the blank number 1.

- Ans 1. dignity
 2. patience
 3. time
 4. power

Question ID : 9895804471
Chosen Option : --

Comprehension:

In the following passage some words have been deleted. Fill in the blanks with the help of the alternatives given.

The Second Anglo-Maratha War had shattered the (1) _____ of the Maratha chiefs, but not their spirit. The loss of their freedom caused them deep _____ (2). They made a last (3) _____ attempt to regain their independence in 1817. The lead in organising a united front of the Maratha chiefs _____ (4) by the Peshwa who was smarting under the (5) _____ control exercised by the British Resident.

SubQuestion No : 22

Q.2
2 Select the most appropriate option that will fill in the blank number 2.

- Ans 1. depression
 2. distress
 3. agony
 4. fear

Question ID : 9895804472
Chosen Option : --

Comprehension:

In the following passage some words have been deleted. Fill in the blanks with the help of the alternatives given.

The Second Anglo-Maratha War had shattered the (1) _____ of the Maratha chiefs, but not their spirit. The loss of their freedom caused them deep _____ (2). They made a last (3) _____ attempt to regain their independence in 1817. The lead in organising a united front of the Maratha chiefs _____ (4) by the Peshwa who was smarting under the (5) _____ control exercised by the British Resident.

SubQuestion No : 23

Q.2
3 Select the most appropriate option that will fill in the blank number 3.

- Ans 1. desperate
 2. violent
 3. feeble

4. massive

Question ID : 9895804473

Chosen Option : --

Comprehension:

In the following passage some words have been deleted. Fill in the blanks with the help of the alternatives given.

The Second Anglo-Maratha War had shattered the (1) _____ of the Maratha chiefs, but not their spirit. The loss of their freedom caused them deep _____ (2). They made a last (3) _____ attempt to regain their independence in 1817. The lead in organising a united front of the Maratha chiefs _____ (4) by the Peshwa who was smarting under the (5) _____ control exercised by the British Resident.

SubQuestion No : 24

Q.2
4 Select the most appropriate option that will fill in the blank number 4.

- Ans
- 1. had taken
 - 2. were taken
 - 3. was taken
 - 4. was taking

Question ID : 9895804474

Chosen Option : --

Comprehension:

In the following passage some words have been deleted. Fill in the blanks with the help of the alternatives given.

The Second Anglo-Maratha War had shattered the (1) _____ of the Maratha chiefs, but not their spirit. The loss of their freedom caused them deep _____ (2). They made a last (3) _____ attempt to regain their independence in 1817. The lead in organising a united front of the Maratha chiefs _____ (4) by the Peshwa who was smarting under the (5) _____ control exercised by the British Resident.

SubQuestion No : 25

Q.2
5 Select the most appropriate option that will fill in the blank number 5.

- Ans
- 1. cruel
 - 2. pleasant
 - 3. orthodox
 - 4. rigid

Question ID : 9895804475

Chosen Option : --

Section : Hindi Language

Q.1 रिक्त स्थान को भरने के लिए उपयुक्त शब्द का चयन करें।

गंगा के जल को _____ माना जाता है।

- Ans
- 1. जहर
 - 2. विष
 - 3. पवित्र
 - 4. शुद्ध

Question ID : 9895804008
Chosen Option : 3

Q.2 दिए गए शब्द के पर्यायवाची शब्द का चयन करें।

जंगल

- Ans
- 1. पय
 - 2. उपवन
 - 3. पत्थर
 - 4. कानन

Question ID : 9895804021
Chosen Option : 4

Q.3 दिए गए वाक्य का वह भाग ज्ञात करें जिसमें कोई त्रुटि है।

आप 'आधे-अधूरे' नामक नाटक को देखने के लिए तुम्हारे मित्र को बुलाइये।

- Ans
- 1. तुम्हारे मित्र
 - 2. को बुलाइये।
 - 3. नाटक को देखने के लिए
 - 4. आप 'आधे-अधूरे' नामक

Question ID : 9895804003
Chosen Option : 1

Q.4 दिए गए शब्द के पर्यायवाची शब्द का चयन करें।

पथ

- Ans
- 1. पथिक
 - 2. पंछी
 - 3. राह
 - 4. भानु

Question ID : 9895804020
Chosen Option : 3

Q.5 दिए गए वाक्य का वह भाग ज्ञात करें जिसमें कोई त्रुटि है।

इस साल गर्मी के मौसम में आर्कटिक क्षेत्र में बर्फ सबसे कम पाई गया।

Ans

- 1. गर्मी के मौसम में
- 2. इस साल
- 3. आर्कटिक क्षेत्र में
- 4. बर्फ सबसे कम पाई गया।

Question ID : 9895804002
Chosen Option : 4

Q.6 दिए गए वाक्य में रेखांकित खंड को प्रतिस्थापित करने के लिए उपयुक्त विकल्प का चयन करें।

खेल कूद हमें विपरीत परिस्थितियों में आगे बढ़ने से प्रेरणा देते हैं।

Ans

- 1. आगे बढ़ना की
- 2. आगे बढ़ते का
- 3. आगे बढ़ने के
- 4. आगे बढ़ने की

Question ID : 9895804005
Chosen Option : 4

Q.7 दिए गए वाक्य का वह भाग ज्ञात करें जिसमें कोई त्रुटि है।

समाचार पत्रों का उद्देश्य होनी चाहिए समाचारों को सकारात्मक दिशा देना।

Ans

- 1. समाचारों को
- 2. होनी चाहिए
- 3. समाचार पत्रों का उद्देश्य
- 4. सकारात्मक दिशा देना।

Question ID : 9895804004
Chosen Option : 2

Q.8 दिए गए वाक्य में रेखांकित खंड को प्रतिस्थापित करने के लिए उपयुक्त विकल्प का चयन करें।

कक्षा में चालीस छात्र हैं, लेकिन कार्तिक सबने बुद्धिमान है।

Ans

- 1. कार्तिक सबसे बुद्धिमान है।
- 2. कार्तिक सबका बुद्धिमान है।
- 3. कार्तिक सबको बुद्धिमान है।

4. कार्तिक सब पर बुद्धिमान है।

Question ID : 9895804007
Chosen Option : 1

Q.9 दिए गए वाक्य में रेखांकित खंड को प्रतिस्थापित करने के लिए उपयुक्त विकल्प का चयन करें।

जातिवाद की समस्या स्वस्थ राष्ट्रीय के पनपने में बहुत बड़ा बाधक तत्व है।

- Ans 1. स्वस्थ राष्ट्रीयता के पनपने में
 2. स्वास्थ्य राष्ट्रीयता के पनपने में
 3. स्वस्थता राष्ट्र के पनपने में
 4. स्वास्थ्य राष्ट्रीय के पनपने में

Question ID : 9895804006
Chosen Option : 2

Q.10 ₀ दिये गये वाक्यांश के लिए एक शब्द चुनिए।

जिसमें शक्ति न हो

- Ans 1. शक्तिशाली
 2. अशक्त
 3. सशक्त
 4. सशक्ति

Question ID : 9895804025
Chosen Option : 2

Comprehension:

निम्नलिखित गद्यांश के रिक्त स्थानों की पूर्ति गद्यांश के नीचे दिए गए प्रश्नों के अनुसार कीजिए -

संसार के महान व्यक्ति अथक _____ (1) करके ही उन्नति के _____ (2) पर पहुंचे हैं। उन्होंने छोटे से छोटा समझे जानेवाले कार्य को पूरी _____ (3) से किया। बोझा ढोनेवाले कुली तेनजिंग ने एवरेस्ट पर _____ (4) की पताका फहरा दिया। संस्कृत में एक _____ (5) है - उद्यम से ही कार्य सिद्ध होते हैं, सिर्फ इच्छा करने से नहीं।

SubQuestion No : 11

Q.1 ₁ गद्यांश में संकेतित रिक्त स्थान (1) के लिए उपयुक्त शब्द होगा

- Ans 1. घुमक्कड़ी
 2. पढ़ाई

✓ 3. परिश्रम

✗ 4. सेवा

Question ID : 9895804013
Chosen Option : 3

Comprehension:

निम्नलिखित गद्यांश के रिक्त स्थानों की पूर्ति गद्यांश के नीचे दिए गए प्रश्नों के अनुसार कीजिए -

संसार के महान व्यक्ति अथक _____(1) करके ही उन्नति के _____(2) पर पहुंचे हैं। उन्होंने छोटे से छोटा समझे जानेवाले कार्य को पूरी _____(3) से किया। बोझा ढोनेवाले कुली तेनजिंग ने एवरेस्ट पर _____(4) की पताका फहरा दिया। संस्कृत में एक _____(5) है - उद्यम से ही कार्य सिद्ध होते हैं, सिर्फ इच्छा करने से नहीं।

SubQuestion No : 12

Q.1
2 गद्यांश में संकेतित रिक्त स्थान (2) के लिए उपयुक्त शब्द होगा

- Ans
- ✗ 1. गर्त
 - ✓ 2. शिखर
 - ✗ 3. सिंधु
 - ✗ 4. तल

Question ID : 9895804014
Chosen Option : 2

Comprehension:

निम्नलिखित गद्यांश के रिक्त स्थानों की पूर्ति गद्यांश के नीचे दिए गए प्रश्नों के अनुसार कीजिए -

संसार के महान व्यक्ति अथक _____(1) करके ही उन्नति के _____(2) पर पहुंचे हैं। उन्होंने छोटे से छोटा समझे जानेवाले कार्य को पूरी _____(3) से किया। बोझा ढोनेवाले कुली तेनजिंग ने एवरेस्ट पर _____(4) की पताका फहरा दिया। संस्कृत में एक _____(5) है - उद्यम से ही कार्य सिद्ध होते हैं, सिर्फ इच्छा करने से नहीं।

SubQuestion No : 13

Q.1
3 गद्यांश में संकेतित रिक्त स्थान (3) के लिए उपयुक्त शब्द होगा

- Ans
- ✗ 1. उपेक्षा
 - ✗ 2. बेमन
 - ✓ 3. लगन
 - ✗ 4. निष्क्रियता

Question ID : 9895804015
Chosen Option : 3

Comprehension:

निम्नलिखित गद्यांश के रिक्त स्थानों की पूर्ति गद्यांश के नीचे दिए गए प्रश्नों के अनुसार कीजिए -

संसार के महान व्यक्ति अथक _____(1) करके ही उन्नति के _____(2) पर पहुंचे हैं। उन्होंने छोटे से छोटा समझे जानेवाले कार्य को पूरी _____(3) से किया। बोझा ढोनेवाले कुली तेनजिंग ने एवरेस्ट पर _____(4) की पताका फहरा दिया। संस्कृत में एक _____(5) है - उद्यम से ही कार्य सिद्ध होते हैं, सिर्फ इच्छा करने से नहीं।

SubQuestion No : 14

Q.1
4 गद्यांश में संकेतित रिक्त स्थान (4) के लिए उपयुक्त शब्द होगा

- Ans
- 1. दर्प
 - 2. मानव
 - 3. धर्म
 - 4. विजय

Question ID : 9895804016
Chosen Option : 4

Comprehension:

निम्नलिखित गद्यांश के रिक्त स्थानों की पूर्ति गद्यांश के नीचे दिए गए प्रश्नों के अनुसार कीजिए -

संसार के महान व्यक्ति अथक _____(1) करके ही उन्नति के _____(2) पर पहुंचे हैं। उन्होंने छोटे से छोटा समझे जानेवाले कार्य को पूरी _____(3) से किया। बोझा ढोनेवाले कुली तेनजिंग ने एवरेस्ट पर _____(4) की पताका फहरा दिया। संस्कृत में एक _____(5) है - उद्यम से ही कार्य सिद्ध होते हैं, सिर्फ इच्छा करने से नहीं।

SubQuestion No : 15

Q.1
5 गद्यांश में संकेतित रिक्त स्थान (5) के लिए उपयुक्त शब्द होगा

- Ans
- 1. भुक्ति
 - 2. बात
 - 3. युक्ति
 - 4. उक्ति

Question ID : 9895804017
Chosen Option : 4

Q.1
6 रिक्त स्थान को भरने के लिए उपयुक्त शब्द का चयन करें।

आपकी यात्रा _____ हो।

- Ans
- 1. अशुभ
 - 2. जंगलमय
 - 3. हँसमुख
 - 4. मंगलमय

Question ID : 9895804011
Chosen Option : 4

Q.1
7 सही वर्तनी वाले शब्द का चयन करें।

- Ans
- 1. ललईमा
 - 2. लालीमा
 - 3. लालिमा
 - 4. ललिमा

Question ID : 9895804026
Chosen Option : 4

Q.1
8 दिए गए शब्द का विलोम चुनें।

स्थावर

- Ans
- 1. नग्न
 - 2. जगम
 - 3. जंगल
 - 4. संगम

Question ID : 9895804019
Chosen Option : 2

Q.1
9 रिक्त स्थान को भरने के लिए उपयुक्त शब्द का चयन करें।

अध्यापक के कक्षा _____ ही सभी बच्चे शरारतें करने लगे।

- Ans
- 1. को आते
 - 2. को जाते
 - 3. से आते
 - 4. से जाते

Question ID : 9895804009
Chosen Option : 3

Q.2
0 निम्नलिखित में से उस विकल्प का चयन करें जो 'ढोल पीटना' मुहावरे का अर्थ व्यक्त करता है।

- Ans
- 1. ढोल पीटकर बताना
 - 2. ढोल को पीटना
 - 3. गाने के साथ ढोल बजाना
 - 4. बात को प्रचारित करना

Question ID : 9895804023

Chosen Option : 4

Q.2
1 निम्नलिखित में से उस विकल्प का चयन करें जो 'डोंग मारना'

मुहावरे का अर्थ व्यक्त करता है।

- Ans
- 1. बहुत बातें करना
 - 2. बढ़ चढ़कर बातें करना
 - 3. कम बातें करना
 - 4. मिल-जुल कर बात करना

Question ID : 9895804022

Chosen Option : 2

Q.2
2 दिए गए शब्द का विलोम चुनें।

ह्रस्व

- Ans
- 1. रोना
 - 2. अहिंसा
 - 3. लघु
 - 4. दीर्घ

Question ID : 9895804018

Chosen Option : 4

Q.2
3 सही वर्तनी वाले शब्द का चयन करें।

- Ans
- 1. खूबसूरति
 - 2. खुबसुरती
 - 3. खूबसुरती
 - 4. खूबसूरती

Question ID : 9895804027

Chosen Option : 2

Q.2
4

रिक्त स्थान को भरने के लिए उपयुक्त शब्द का चयन करें।

आग _____ रूप धारण कर चुकी थी।

- Ans
- 1. हँसमुख
 - 2. नफरत
 - 3. प्रेम
 - 4. भीषण

Question ID : 9895804010
Chosen Option : 4

Q.2
5 दिये गये वाक्यांश के लिए एक शब्द चुनिए।

जो बात पहले कभी न हुई हो

- Ans
- 1. दुर्लभ
 - 2. अभूतपूर्व
 - 3. सुलभ
 - 4. अविश्वसनीय

Question ID : 9895804024
Chosen Option : 2

KD Job Updates

Constable (GD) in CAPFs, NIA, SSF and Rifleman (GD) in Assam Rifles Examination, 2018

Roll No. :	
Registration No.	
Name :	
Exam Venue :	
Exam Time :	4:00 PM - 5:30 PM
Exam Date :	14/02/2019

Section : General Section

Q.1 उस विकल्प का चयन करें जो तीसरे पद से उसी प्रकार से संबंधित है जिस प्रकार दूसरा पद पहले पद से संबंधित है।

दिसपुर : असम :: कोहिमा : ?

- Ans
- 1. राजधानी
 - 2. मेघालय
 - 3. नगालैंड
 - 4. सिक्किम

Question ID : 9895803367

Chosen Option : 3

Q.2 उस विकल्प का चयन करें जो तीसरे पद से उसी प्रकार से संबंधित है जिस प्रकार दूसरा पद पहले पद से संबंधित है।

प्रसिद्ध : विख्यात :: भिगोना : ?

- Ans
- 1. पीना
 - 2. इच्छा करना
 - 3. सराबोर करना
 - 4. वाद-विवाद करना

Question ID : 9895803368

Chosen Option : 3

Q.3 आठ मित्र A, B, C, D, E, F, G और H दोपहर के भोजन के लिए एक वृत्ताकार मेज के चारों ओर एक-दूसरे के आमने-सामने बैठे हैं। A, F के सामने है और B के दाएँ ओर से तीसरा है। G, F और D के बीच में है। H, D के बाएँ ओर है। E, C और A के बीच में है। H के दायें से तीसरा कौन बैठा है?

- Ans
- 1. B
 - 2. D
 - 3. A
 - 4. F





Question ID : 9895803373

Chosen Option : 2

Q.4 विकल्पों में से उस आकृति का चयन करें जिसमें 'X' से चिह्नित आकृति समाहित है। (घुमाने की अनुमति नहीं है)



Ans

- ✗ 1. 
- ✗ 2. 
- ✗ 3. 
- ✓ 4. 

Question ID : 9895803385
Chosen Option : 1

Q.5 उस विकल्प का चयन करें जो दी गई श्रृंखला में प्रश्न चिह्न (?) के स्थान पर आएगा।

5, 6, 14, 41, ?


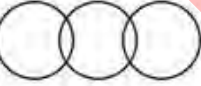
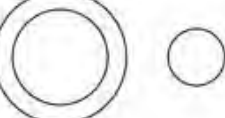

- Ans ✗ 1. 135
- ✓ 2. 105
- ✗ 3. 115
- ✗ 4. 95

Question ID : 9895803378
Chosen Option : 3

Q.6 निम्नलिखित में से कौन सा वेन रेखाचित्र दिए गए वर्ग के बीच के संबंध को सही दर्शाता है?

व्हेल, चमगादड़, स्तनपायी

Ans

- ✓ 1. 
- ✗ 2. 
- ✗ 3. 
- ✗ 4. 








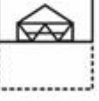
Question ID : 9895803388
Chosen Option : 1

Q.7 पैटर्न के साथ एक वर्गाकार पारदर्शी कागज पत्रक दिया गया है। पारदर्शी कागज पत्रक को बिंदुंकित रेखा पर मोड़े जाने पर पैटर्न कैसा दिखाई देगा?



x

Ans

1.  
2.  
3.  
4.  

Question ID : 9895803387
Chosen Option : 2


Q.8 एक निश्चित कूट भाषा कोड में, STEERING को TEIGTEIG के रूप में लिखा जाता है। उसी कूट भाषा में QUESTION को कैसे लिखा जाएगा?

- Ans  1. USJNUSIN
-  2. USINVSIN
-  3. USINUSIN
-  4. USINUSJN

Question ID : 9895803370
Chosen Option : 2

Q.9 उस विकल्प का चयन करें जो तीसरे पद से उसी प्रकार से संबंधित है जिस प्रकार दूसरा पद पहले पद से संबंधित है।

BFH : HBF :: GKM : ?

- Ans  1. IKM
-  2. MGK
-  3. KMG
-  4. MKI

Question ID : 9895803369
Chosen Option : 2

Q.1 0 दिए गए विकल्पों में से असंगत का चयन करें।

- Ans  1. बर्लिन
-  2. क्यूबा
-  3. घाना
-  4. मिस्र

Question ID : 9895803366
Chosen Option : 1

Q.1 1 J, K L, M, N और O छह शिक्षक हैं। उनमें से प्रत्येक एक अलग विषय हिंदी, अंग्रेजी, गणित, विज्ञान, सामाजिक विज्ञान और कला में से पढ़ाता है, जरूरी नहीं कि उसी क्रम में हो। उनमें से प्रत्येक सोमवार से शनिवार तक केवल एक दिन ही पढ़ाता है, जरूरी नहीं कि उसी क्रम में हो। J शनिवार को कला पढ़ाता है। L न तो अंग्रेजी और न ही सामाजिक विज्ञान पढ़ाता है, लेकिन वह गुरुवार को पढ़ाता है। K के द्वारा गणित पढ़ाने के लिए बुधवार आरक्षित है। N से एक दिन पहले O विज्ञान पढ़ाता है। कला से एक दिन पहले सामाजिक विज्ञान पढ़ाया जाता है। कौन सा विषय गुरुवार और शनिवार के बीच के दिन पढ़ाया जाता है?

- Ans
- 1. अंग्रेजी
 - 2. गणित
 - 3. विज्ञान
 - 4. सामाजिक विज्ञान

Question ID : 9895803374
Chosen Option : 4

Q.1
2 दिए गए विकल्पों में से असंगत का चयन करें।

- Ans
- 1. LNM
 - 2. RNK
 - 3. JKV
 - 4. HLW

Question ID : 9895803365
Chosen Option : 1

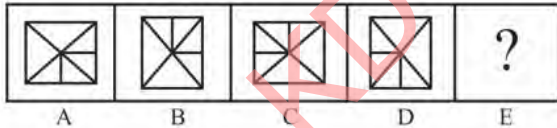
Q.1
3 उस विकल्प का चयन करें जो दी गई श्रृंखला में प्रश्न चिह्न (?) के स्थान पर आएगा।

6, 21, 51, 96, ?

- Ans
- 1. 116
 - 2. 156
 - 3. 136
 - 4. 176

Question ID : 9895803377
Chosen Option : 1

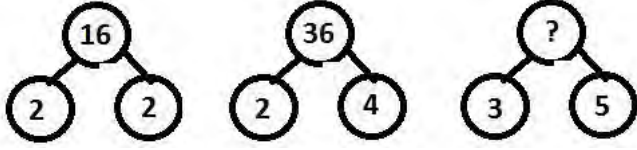
Q.1
4 विकल्पों में से उस आकृति का चयन करें जो दी गई श्रृंखला में अगले स्थान पर आएगी।



- Ans
- 1.
 - 2.
 - 3.
 - 4.

Question ID : 9895803383
Chosen Option : 2

Q.1
5 उस विकल्प का चयन करें जो दिए गए पैटर्न में प्रश्न चिह्न (?) के स्थान पर आएगा।



- Ans
- 1. 34
 - 2. 15
 - 3. 64
 - 4. 8

Question ID : 9895803381
Chosen Option : 3

Q.1
6 उस विकल्प का चयन करें जो तीसरी संख्या से उसी प्रकार से संबंधित है जिस प्रकार दूसरी संख्या पहली संख्या से संबंधित है।

45 : 315 :: 37 : ?

- Ans
- 1. 221
 - 2. 144
 - 3. 259
 - 4. 169

Question ID : 9895803379
Chosen Option : 4

Q.1
7 सात मित्र O, P, Q, R, S, T और U एक पंक्ति में बैठकर फिल्म देख रहे हैं। S एक अंतिम छोर पर बैठा हुआ है। Q, S के दाएं से दूसरे स्थान पर बैठा है। P, O और Q के बीच में बैठा है। U किसी भी अंतिम छोर पर नहीं बैठा है। R, T के बाएं ओर बैठा है। U के दाएं ओर से चौथे स्थान पर कौन बैठा है?

- Ans
- 1. T
 - 2. P
 - 3. R
 - 4. Q

Question ID : 9895803372
Chosen Option : 3

Q.1
8 दिए गए विकल्पों में से असंगत संख्या का चयन करें।

- Ans
- 1. 65
 - 2. 8
 - 3. 125
 - 4. 216

Question ID : 9895803380
Chosen Option : 1

Q.1
9

उस विकल्प का चयन करें जो दी गई श्रृंखला में प्रश्न चिह्न (?) के स्थान पर सही रूप में आएगा।

TOD, RQB, PSZ, NUX, ?

- Ans
- 1. LWU
 - 2. LVW
 - 3. LWV
 - 4. LWW

Question ID : 9895803364
Chosen Option : 2

Q.2 उस विकल्प का चयन करें जो दर्पण के दाएँ ओर रखे जाने पर शब्द की दी गई दर्पण छवि से सर्वाधिक मेल खाता है।

0

MORTIFY

- Ans
- 1. YITROM
 - 2. YFILROM
 - 3. YORTIFY
 - 4. YITLROM

Question ID : 9895803386
Chosen Option : 1

Q.2 नीचे दिए गए कथनों के बाद दो निष्कर्ष I और II दिए गए हैं। यह मानते हुए कि कथनों में दी गई जानकारी सत्य है, भले ही वह सर्वज्ञात तथ्यों से भिन्न प्रतीत होती हो और यह निर्णय करें कि कौन सा / से निष्कर्ष तार्किक और निश्चित रूप से कथन में दी गई जानकारी का अनुसरण करता है / करते हैं।

1

कथन:

- 1.) सभी कलमें मेंढक हैं।
- 2.) सभी कौवे मेंढक हैं।

निष्कर्ष

- I. कोई कलम कौवा नहीं है।
- II. कुछ कलमें कौवे हैं।

- Ans
- 1. या तो निष्कर्ष I या निष्कर्ष II अनुसरण करता है।
 - 2. केवल निष्कर्ष II अनुसरण करता है।
 - 3. केवल निष्कर्ष I अनुसरण करता है।
 - 4. दोनों ही निष्कर्ष अनुसरण करते हैं।

Question ID : 9895803375
Chosen Option : 4

Q.2 निम्नलिखित समीकरण को सही करने के लिए विकल्पों में दिए गए किन दो चिहनों को परस्पर बदला जाना चाहिए?

2

$$27 + 48 \times 2 - 7 + 3 = 30$$

- Ans
- 1. - और ×
 - 2. + और -

3. - और ÷

4. × और ÷

Question ID : 9895803382

Chosen Option : 2

Q.2 नीचे दिए गए कथनों के बाद दो निष्कर्ष I और II दिए गए हैं। यह मानते हुए कि कथनों में दी गई जानकारी सत्य है, भले ही वह सर्वज्ञात तथ्यों से भिन्न प्रतीत होती हो और यह निर्णय करें कि कौन सा / से निष्कर्ष तार्किक और निश्चित रूप से कथन में दी गई जानकारी का अनुसरण करता है / करते हैं।

कथन:

1.) कुछ उल्लू घोड़े हैं।

2.) कुछ घोड़े खरगोश हैं।

निष्कर्ष:

I. कुछ उल्लू खरगोश हैं।

II. कुछ खरगोश उल्लू हैं।

Ans

1. केवल निष्कर्ष I अनुसरण करता है।

2. दोनों ही निष्कर्ष अनुसरण करते हैं।

3. केवल निष्कर्ष II अनुसरण करता है।

4. न तो निष्कर्ष I और न ही निष्कर्ष II अनुसरण करता है।

Question ID : 9895803376

Chosen Option : 4

Q.2 एक निश्चित कूट भाषा में, DIG को 60 के रूप में लिखा जाता है। उसी कूट भाषा में FEED को कैसे लिखा जाएगा?

Ans

1. 50

2. 90

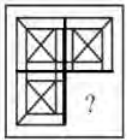
3. 20

4. 80

Question ID : 9895803371

Chosen Option : 4

Q.2 दिए गए चार विकल्पों में से उस आकृति को चुनें, जिसे आकृति X के रिक्त स्थान में (बिना घुमाए) रखने पर पैटर्न पूरा हो जाएगा।

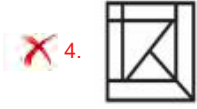


Ans

1.

2.

3.



Question ID : 9895803384
Chosen Option : 1

Q.2
6 टेबल टेनिस के लिए 2018 द्रोणाचार्य पुरस्कार किस को दिया गया?

- Ans
- 1. जीवन कुमार शर्मा
 - 2. श्रीनिवास राव
 - 3. तारक सिन्हा
 - 4. विजया शर्मा

Question ID : 9895804938
Chosen Option : 3

Q.2
7 मलेरिया और काला आज़ार किस से होता है?

- Ans
- 1. जीवाणु (बैक्टीरिया)
 - 2. विषाणु (वाइरस)
 - 3. प्रजीवगण (प्रोटोजोआ)
 - 4. कवक

Question ID : 9895804940
Chosen Option : 2

Q.2
8 _____ आसपास से ध्वनि को एकत्रित करता है।

- Ans
- 1. श्रवण तंत्रिका
 - 2. कर्णावर्त (कोचलीआ)
 - 3. कान का परदा
 - 4. कर्णपाली (पिन्ना)

Question ID : 9895804939
Chosen Option : 3

Q.2
9 ताजमहल की प्रतिकृति, 'बीबी का मकबरा' कहाँ पर स्थित है?

- Ans
- 1. चन्द्रनगर
 - 2. कटक
 - 3. अहमदाबाद
 - 4. औरंगाबाद

Question ID : 9895804928
Chosen Option : 4

Q.3 न्यायमूर्ति राजेन्द्र सचर समिति की स्थापना भारत सरकार द्वारा किस उद्देश्य के लिए की गई थी?

0

Ans 1.

मुस्लिम समुदाय की सामाजिक और आर्थिक स्थिति की जाँच करना।

2. भारत की विदेश नीति की स्थिति की जाँच करना।

3.

भारतीय अर्थव्यवस्था के असंगठित क्षेत्र की स्थिति का अध्ययन करना।

4. भारत में राष्ट्रीय उद्यानों की स्थितियों का अध्ययन करना।

Question ID : 9895804947
Chosen Option : 3

Q.3
1 वैदिक काल के महत्वपूर्ण देवताओं के सही समूह का चयन करें।

Ans 1. अग्नि, इंद्र, सोम

2. ब्रह्मा, प्रजापति, गरुड़

3. वरुण, विष्णु, शिव

4. शेषनाग, चंद्र, यम

Question ID : 9895804933
Chosen Option : 2

Q.3
2 प्रकाश वर्ष निम्नलिखित में से किस से संबंधित है?

Ans 1. मौसम

2. अन्तर

3. ध्वनि

4. गति

Question ID : 9895804941
Chosen Option : 4

Q.3
3 सैंडस्टोन निम्नलिखित में से किस का उदाहरण है?

Ans 1. तलछटी पत्थर

2. मेटामोर्फिक (रूपांतरित) पत्थर

3. गैर-धूमिल पत्थर

4. आग्नेय पत्थर

Question ID : 9895804935
Chosen Option : 4

Q.3
4 नटराज की कांस्य प्रतिमा किसके शासनकाल के दौरान निर्मित की गई थी?

Ans 1. पंड्या

2. चेरा

3. पल्लव

✓ 4. चोला

Question ID : 9895804930

Chosen Option : 3

Q.3 यथा जनवरी 2019 किस भारतीय क्रिकेटर ने एक दिवसीय अंतरराष्ट्रीय मैचों में सबसे तेज 100 विकेट लेने की सिद्धि प्राप्त की?

- Ans
- ✗ 1. हार्दिक पंड्या
 - ✗ 2. इशांत शर्मा
 - ✓ 3. मोहम्मद शमी
 - ✗ 4. उमेश यादव

Question ID : 9895804937

Chosen Option : 3

Q.3 बांदीपुर राष्ट्रीय उद्यान भारत के निम्नलिखित में से किस राज्य में स्थित है?

- Ans
- ✗ 1. ओडिशा
 - ✗ 2. छत्तीसगढ़
 - ✓ 3. कर्नाटक
 - ✗ 4. तमिलनाडु

Question ID : 9895804934

Chosen Option : 3

Q.3 भारत के कृषि क्षेत्र में बेरोजगारी का प्रकार जहाँ आवश्यकता से अधिक लोग नियोजित लोगों को रोजगार दिया जाता है उसको किस रूप में जाना जाता है?

- Ans
- ✗ 1. मौसमी बेरोजगारी
 - ✗ 2. संरचनात्मक बेरोजगारी
 - ✗ 3. सीमांत बेरोजगारी
 - ✓ 4. प्रचण्ण बेरोजगारी

Question ID : 9895804950

Chosen Option : 4

Q.3 कौन सा पुल असम के डिब्रूगढ़ को अरुणाचल प्रदेश के पासीघाट से जोड़ता है?

- Ans
- ✓ 1. बोगीबिल
 - ✗ 2. नैनी
 - ✗ 3. पबन
 - ✗ 4. कोरोनेशन

Question ID : 9895804946

Chosen Option : 1

Q.3 भारत में चुनाव के संदर्भ में, VVPAT शब्द का अर्थ पूर्ण रूप क्या है?

- Ans
- ✗ 1. वोटर वेरिफायबल पेपर अकाउंट ट्रेल

2. वोटर वेरिफायबल पेपर ऑडिट ट्रेल
3. वोटर विजिट पोल अकाउंट ट्रेल
4. वोटर विविड प्रेस ऑडिट ट्रेल

Question ID : 9895804944
Chosen Option : 3

Q.4 0 तेल और बसा युक्त भोजन, जब अधिक समय तक रखा जाता है, तो किस प्रक्रिया के कारण इसके स्वाद और गंध में बदलाव होता है?

- Ans 1. प्रतिस्थापन (सब्सिट्यूशन)
2. अपघटन (सड़न)
3. विकृत गंधिता (रेंसीडीटी)
4. किण्वन (फ़र्मन्टेशन)

Question ID : 9895804943
Chosen Option : 1

Q.4 1 बाली का सफ़र 'बाली यात्रा', भारत के निम्नलिखित में से किस राज्य में मनाया जाता है?

- Ans 1. केरल
2. तमिलनाडु
3. ओडिशा
4. राजस्थान

Question ID : 9895804929
Chosen Option : 1

Q.4 2 कुछ दिनों के बाद, पीतल और कांस्य की मूर्तियाँ हरी हो जाती हैं उसका कारण क्या है?

- Ans 1. संक्षारण
2. अपक्षरण
3. अपघटन (सड़न)
4. ऑक्सीकरण

Question ID : 9895804942
Chosen Option : 4

Q.4 3 रैयतवाड़ी व्यवस्था निम्नलिखित में से किसके द्वारा शुरू की गई थी?

- Ans 1. लॉर्ड कार्नवालिस
2. वारेन हेस्टिंग्स
3. लॉर्ड रिपन
4. थॉमस मुनरो

Question ID : 9895804932
Chosen Option : 1

Q.4 4 भारतीय संविधान के संदर्भ में, निम्नलिखित में से कौन सा अनुच्छेद अपने नागरिकों को धर्म की स्वतंत्रता के अधिकार की गारंटी देता है?

- Ans
- 1. अनुच्छेद 32
 - 2. अनुच्छेद 22
 - 3. अनुच्छेद 25
 - 4. अनुच्छेद 14

Question ID : 9895804949
Chosen Option : 2

Q.4 5 निम्नलिखित में से किस केंद्र शासित प्रदेश को भारत में आंशिक राज्य का दर्जा दिया गया है?

- Ans
- 1. दमन दीव
 - 2. चंडीगढ़
 - 3. पुडुचेरी
 - 4. दादरा और नगर हवेली

Question ID : 9895804948
Chosen Option : 2

Q.4 6 भारतीय राष्ट्रीय कांग्रेस का लाहौर सत्र किस कारण महत्वपूर्ण है?

- Ans
- 1. इसने भारत में नागरिक सेवा परीक्षा आयोजित करने का प्रस्ताव पारित किया।
 - 2. इसने प्रांतीय चुनावों के बहिष्कार का प्रस्ताव पारित किया।
 - 3. इसने रौलट सत्याग्रह शुरू करने का प्रस्ताव पारित किया।
 - 4. इसने पूर्ण स्वराज की मांग का प्रस्ताव पारित किया।

Question ID : 9895804931
Chosen Option : 4

Q.4 7 तृतीयक क्षेत्र का दूसरा नाम क्या है?

- Ans
- 1. उत्पादक क्षेत्र
 - 2. सेवा क्षेत्र
 - 3. प्राथमिक क्षेत्र
 - 4. सार्वजनिक क्षेत्र

Question ID : 9895804951
Chosen Option : 2

Q.4 8 टुंड्रा प्रकार की वनस्पति के बारे में निम्नलिखित में से कौन सा कथन सही नहीं है?

- Ans
- 1. यह समशीतोष्ण क्षेत्र में पायी जाती है।
 - 2. प्राकृतिक वनस्पति का विकास यहाँ सीमित है।

3. छोटी झाड़ियाँ इस वनस्पति का एक हिस्सा हैं।
4. सवार (माँस) और काई (लाइचेन) यहाँ पाए जाते हैं।

Question ID : 9895804936
Chosen Option : 4

Q.4 महात्मा गांधी राष्ट्रीय ग्रामीण रोजगार गारंटी अधिनियम के संदर्भ में, निम्नलिखित में से कौन सा कथन सही नहीं है?

Ans 1.

- यह ग्रामीण विकास मंत्रालय द्वारा कार्यान्वित किया जाता है।
2. इसे भारत सरकार ने 2009 में शुरू किया था।
3. यह लाभार्थी को 100 दिनों के काम की गारंटी देता है।
4. इसे काम के अधिकार के रूप में भी जाना जाता है।

Question ID : 9895804952
Chosen Option : 1

Q.5 निम्नलिखित में से किस स्थान पर प्रवासी भारतीय दिवस 2019 के समापन समारोह का आयोजन किया गया?

- Ans 1. वाराणसी
2. चंडीगढ़
3. पुणे
4. कोच्चि

Question ID : 9895804945
Chosen Option : 1

Q.5 एक लंबवृत्तीय बेलन की ऊँचाई 20 से.मी. है। यदि इसके आधार की त्रिज्या 14 से.मी. है, तो बेलन का वक्र पृष्ठीय क्षेत्रफल क्या होगा?

- Ans 1. 1880 से.मी.²
2. 1940 से.मी.²
3. 1760 से.मी.²
4. 2120 से.मी.²

Question ID : 9895805047
Chosen Option : 4

Q.5 P, Q तथा R एक व्यापार शुरू करने के लिए क्रमशः ₹14000, ₹18000 तथा ₹24000 निवेश करते हैं। यदि वर्ष के अंत में लाभ ₹25480 है, तो P तथा Q के हिस्सों के मध्य अंतर क्या है?

- Ans 1. ₹2670
2. ₹3480
3. ₹1820
4. ₹2140

Question ID : 9895805040
Chosen Option : 4

Q.5 यदि मोहित 1872 कि.मी. की एक दूरी को 26 घंटों में तय कर सकता है, तो मोहित की गति क्या है?

3

- Ans
- 1. 72 मी./से.
 - 2. 24 मी./से.
 - 3. 36 मी./से.
 - 4. 20 मी./से.

Question ID : 9895805046
Chosen Option : 4

Q.5 ऐसी सबसे बड़ी संख्या क्या है, जिससे 52 तथा 104 को विभाजित करने पर क्रमशः 4 तथा 8 शेषफल बचता है?

4

- Ans
- 1. 26
 - 2. 12
 - 3. 16
 - 4. 48

Question ID : 9895805028
Chosen Option : 2

Q.5 K अकेला एक कार्य को 20 दिन में पूरा कर सकता है तथा M अकेला समान कार्य को 30 दिन में पूरा कर सकता है। K तथा M मिलकर कार्य आरंभ करते हैं परंतु K कार्य शुरू होने के 5 दिन पश्चात् कार्य छोड़ देता है। M शेष कार्य को कितने दिन में पूरा करेगा?

5

- Ans
- 1. 55/2 दिन
 - 2. 25/2 दिन
 - 3. 35/2 दिन
 - 4. 45/2 दिन

Question ID : 9895805044
Chosen Option : 4

Q.5 यदि एक वस्तु का विक्रय मूल्य ₹638 है तथा लाभ 45% है, तो लाभ कितना होगा?

6

- Ans
- 1. ₹198
 - 2. ₹287.1
 - 3. ₹256
 - 4. ₹440

Question ID : 9895805036
Chosen Option : 4

Q.5 प्रबंधकों का औसत वेतन x है तथा श्रमिकों का औसत वेतन y है। प्रबंधकों की संख्या श्रमिकों की संख्या का 15 गुना है। प्रबंधकों तथा श्रमिकों को मिलाकर दोनों का औसत वेतन क्या है?

7

- Ans
- 1. $(15x + y)/(x + y)$
 - 2. $(x + 15y)/16$
 - 3. $(x + 15y)/(x + y)$
 - 4. $(15x + y)/16$

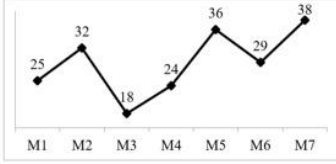
Question ID : 9895805032
Chosen Option : 3

Q.5 एक राशि 10 वर्षों में साधारण ब्याज की दर से स्वयं का तीन गुना हो जाती है। ब्याज की वार्षिक दर क्या है?

- Ans
- 1. 30%
 - 2. 20%
 - 3. 25%
 - 4. 15%

Question ID : 9895805041
Chosen Option : 2

Q.5 नीचे दिया गया रेखा चित्र 7 विभिन्न माह में कारों के उत्पादन (10000s में) को दर्शाता है।



M2 महीने में कारों का उत्पादन M1 महीने में कारों के उत्पादन से कितना प्रतिशत अधिक है?

- Ans
- 1. 37.5%
 - 2. 25%
 - 3. 28%
 - 4. 33.33%

Question ID : 9895805050
Chosen Option : 2

Q.6 एक वस्तु का अंकित मूल्य उसके क्रय मूल्य से 40% अधिक है। यदि वस्तु पर 50% की छूट दी गई है, तो विक्रय मूल्य क्रय मूल्य का कितना प्रतिशत है?

- Ans
- 1. 93%
 - 2. 84%
 - 3. 70%
 - 4. 78%

Question ID : 9895805033
Chosen Option : 3

Q.6 रोहित, मोहित तथा सुमित अकेले-अकेले एक कार्य को क्रमशः 8 दिन, 14 दिन तथा 21 दिन में पूरा कर सकते हैं। वह तीनों मिलकर समान कार्य को कितने दिन में पूरा कर सकते हैं?

- Ans
- 1. 168/41 दिन
 - 2. 168/43 दिन
 - 3. 156/43 दिन
 - 4. 156/41 दिन

Question ID : 9895805043
Chosen Option : 3

Q.6 $\left[45 \text{ का } \left(\frac{3}{7} \div \frac{15}{14}\right) - \left(6\frac{1}{2} \div 3 - 4\right) + 2\right]$ का मान क्या है?

- Ans
- 1. $\frac{109}{6}$

2. $\frac{147}{11}$
3. $\frac{131}{6}$
4. $\frac{33}{7}$

Question ID : 9895805030
Chosen Option : 3

Q.6
3 दिए गए डेटा का बहुलक क्या है?

3, 0, 1, 0, 2, 1, 2, 0, 1, 2, 1, 1, 1, 3, 2

- Ans 1. 0
2. 1
3. 2
4. 3

Question ID : 9895805034
Chosen Option : 2

Q.6
4 10 वस्तुओं का औसत वजन 65 कि.ग्रा. है। यदि 72 कि.ग्रा. औसत वजन वाली तीन वस्तुओं को हटा दिया जाए, तो बची हुई वस्तुओं का औसत वजन क्या होगा?

- Ans 1. 58 कि.ग्रा.
2. 62 कि.ग्रा.
3. 71 कि.ग्रा.
4. 65 कि.ग्रा.

Question ID : 9895805031
Chosen Option : 4

Q.6
5 एक वर्ग तथा एक आयत का क्षेत्रफल बराबर है। आयत की लंबाई वर्ग की भुजा से 5 से.मी. अधिक है तथा उसकी चौड़ाई वर्ग की भुजा से 4 से.मी. कम है। आयत का परिमाण क्या होगा?

- Ans 1. 76 से.मी.
2. 72 से.मी.
3. 82 से.मी.
4. 84 से.मी.

Question ID : 9895805048
Chosen Option : 3

Q.6
6 ₹4500 की एक राशि चक्रवृद्धि ब्याज दर से उधार दी जाती है। यदि वार्षिक ब्याज दर 10% है (ब्याज का संयोजन वार्षिक किया गया है), तो 3 वर्षों पश्चात धनराशि क्या होगी?

- Ans 1. ₹5889.5
2. ₹5689.5
3. ₹5989.5
4. ₹5686.5

Question ID : 9895805042
Chosen Option : 1

Q.6 एक व्यक्ति ₹345 प्रति कैलकुलेटर की दर से कैलकुलेटर खरीदता है। यदि वह 40% की हानि पर कैलकुलेटर बेचता है, तो 28 कैलकुलेटर का विक्रय मूल्य क्या होगा?

- Ans
- 1. ₹13524
 - 2. ₹5796
 - 3. ₹8657
 - 4. ₹6872

Question ID : 9895805037
Chosen Option : 2

Q.6 यदि एक संख्या को 14 से विभाजित किया जाता है, तो वह दूसरी संख्या के 10% के बराबर हो जाता है। पहली संख्या दूसरी संख्या से कितने प्रतिशत अधिक है?

- Ans
- 1. 45%
 - 2. 40%
 - 3. 60%
 - 4. 30%

Question ID : 9895805035
Chosen Option : 2

Q.6 दो ठोस गोले के आयतन का योग $1144/3$ से.मी.³ है। यदि उनकी विज्या का योग 7 से.मी. है, तो उनकी विज्या का अंतर क्या होगा?

- Ans
- 1. 1 से.मी.
 - 2. 3 से.मी.
 - 3. 2 से.मी.
 - 4. 4 से.मी.

Question ID : 9895805049
Chosen Option : 2

Q.7 $\left[\left(\frac{1}{2} \div \frac{1}{4} - 4 \times \frac{1}{2} \times \frac{1}{3}\right) \text{ का } \left(\frac{2}{3} \div \frac{4}{3} + \frac{1}{2}\right)\right]$ मान क्या है?

- Ans
- 1. $\frac{3}{4}$
 - 2. $\frac{1}{2}$
 - 3. $\frac{5}{2}$
 - 4. $\frac{4}{3}$

Question ID : 9895805029
Chosen Option : 2

Q.7 दो संख्याओं का अनुपात 13 : 20 है। यदि उनके मध्य का अंतर 189 है, तो दोनों संख्याओं में से छोटी संख्या क्या है?

- Ans
- 1. 221

2. 297
3. 351
4. 279

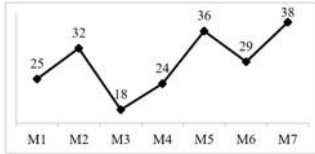
Question ID : 9895805038
Chosen Option : 3

Q.7 यदि सोहन 25 मी./से. की गति से एक बाइक चला रहा है, तो सोहन 540 कि.मी. की दूरी को कितने समय में तय करेगा?

- Ans 1. 6 घंटे
2. 7 घंटे
3. 21.6 घंटे
4. 5 घंटे

Question ID : 9895805045
Chosen Option : 3

Q.7 नीचे दिया गया रेखा चित्र 7 विभिन्न माह में कारों के उत्पादन (10000 में) को दर्शाता है।



दिए गए 7 महीनों के लिए औसत मासिक उत्पादन क्या है?

- Ans 1. 32.2 (10000 में)
2. 28.8 (10000 में)
3. 23.5 (10000 में)
4. 21.6 (10000 में)

Question ID : 9895805051
Chosen Option : 2

Q.7 नीचे दी गई तालिका 5 विषयों में 4 छात्रों द्वारा प्राप्त अंकों को दर्शाती है। प्रत्येक विषय के अधिकतम अंक 100 हैं।

विषय	छात्र			
	P1	P2	P3	P4
S1	89	100	92	91
S2	62	52	72	37
S3	57	55	70	65
S4	76	85	76	58
S5	85	70	66	62

P2 द्वारा प्राप्त प्रति विषय औसत अंक क्या हैं?

- Ans 1. 72.4
2. 75.8
3. 70.6
4. 74.6

Question ID : 9895805052
Chosen Option : 1

Q.7
5

यदि $x : y = 5 : 4$ है, तो $(x/y) : (y/x)$ का अनुपात क्या होगा?

- Ans
- 1. 4 : 5
 - 2. 25 : 16
 - 3. 5 : 4
 - 4. 16 : 25

Question ID : 9895805039

Chosen Option : 2

Section : English Language

Q.1 Select the most appropriate option to fill in the blank.

The film we saw last night was boring. I wish I _____ seen it.

- Ans
- 1. hadn't
 - 2. didn't
 - 3. wouldn't have
 - 4. shouldn't

Question ID : 9895804495

Chosen Option : --

Q.2 Select the most appropriate word to fill in the blank.

Let us go for a picnic today. The _____ is very pleasant.

- Ans
- 1. weather
 - 2. atmosphere
 - 3. season
 - 4. climate

Question ID : 9895804512

Chosen Option : --

Q.3 Select the most appropriate word to fill in the blank.

Beware of him. He is as sly as a _____.

- Ans
- 1. snail
 - 2. goat
 - 3. rabbit
 - 4. fox

Question ID : 9895804513

Chosen Option : --

Q.4 From the given options, identify the segment in the sentence which contains the grammatical error.

He cannot speak Spanish because he was born and brought up in Spain.

- Ans
- 1. He cannot speak
 - 2. because he was

3. in Spain.

4. born and brought up

Question ID : 9895804489

Chosen Option : --

Q.5 Select the option that means the same as the given idiom.

Spill the beans

Ans 1. To leak the secret

2. To be productive

3. To be clumsy

4. To keep the secret

Question ID : 9895804507

Chosen Option : --

Q.6 Select the most appropriate option to substitute the underlined segment in the given sentence. If there is no need to substitute it, select No Improvement.

The prince was told kill the dragon, but in order to do so, he had to cross the Forbidden Mountain.

Ans 1. No improvement

2. was told too kill the dragon

3. was told killing the dragon

4. was told to kill the dragon

Question ID : 9895804491

Chosen Option : --

Q.7 Select the most appropriate option to substitute the underlined segment in the given sentence. If there is no need to substitute it, select No Improvement.

The mobile company changed their handsets last year, and by doing so they have managed to improve their sale.

Ans 1. improved their sales

2. improve the sale

3. improve their sales

4. No improvement

Question ID : 9895804492

Chosen Option : --

Q.8 Select the synonym of the given word.

AMIABLE

Ans 1. Cheerful

2. Bashful

3. Hostile

4. Friendly

Question ID : 9895804503

Chosen Option : --

Q.9 From the given options, identify the segment in the sentence which contains the grammatical error.

Ten years since Mohit left India and started working for the betterment of the downtrodden people.

- Ans
- 1. Mohit left India
 - 2. the betterment of
 - 3. Ten years since
 - 4. started working for

Question ID : 9895804488

Chosen Option : --

Q.1
0 Select the most appropriate option to fill in the blank.

When she bid farewell to her parents, her eyes were full _____ tears.

- Ans
- 1. with
 - 2. by
 - 3. from
 - 4. of

Question ID : 9895804494

Chosen Option : --

Q.1
1 Select the correctly spelt word.

- Ans
- 1. Calandar
 - 2. Calender
 - 3. Calander
 - 4. Calendar

Question ID : 9895804511

Chosen Option : --

Q.1
2 Select the synonym of the given word.

TURBULENT

- Ans
- 1. Violent
 - 2. Miserable
 - 3. Accurate
 - 4. Troublesome

Question ID : 9895804502

Chosen Option : --

Q.1
3 Select the option that means the same as the given idiom.

At the drop of a hat

- Ans
- 1. Seldom
 - 2. Instantly
 - 3. Slowly

4. Lately

Question ID : 9895804506

Chosen Option : --

Q.1 From the given options, identify the segment in the sentence which contains the grammatical error.

4

If I am a bird, I would fly and explore the world.

- Ans
- 1. I would fly
 - 2. and explore
 - 3. the world
 - 4. If I am

Question ID : 9895804490

Chosen Option : --

Q.1 Select the antonym of the given word.

5

BOISTEROUS

- Ans
- 1. Restrained
 - 2. Aggravated
 - 3. Exuberant
 - 4. Incompetent

Question ID : 9895804504

Chosen Option : --

Q.1 Select the most appropriate option to substitute the underlined segment in the given sentence. If there is no need to substitute it, select No Improvement.

6

Don't use those pencils; use the one we bought in Portugal.

- Ans
- 1. use the ones
 - 2. use one
 - 3. use this ones
 - 4. No improvement

Question ID : 9895804493

Chosen Option : --

Comprehension:

In the following passage some words have been deleted. Fill in the blanks with the help of the alternatives given.

Most animals have their own habitats _____ (1) some make long journeys from one region to another. This _____ (2) called migration. It takes place at a particular _____ (3) of the year. Birds are the best-known _____ (4) but many other animals also migrate to places with _____ (5) climate.

SubQuestion No : 17

Q.1 Select the most appropriate option to fill in blank number (1).

7

- Ans
- 1. but

2. so
 3. as
 4. because

Question ID : 9895804497
Chosen Option : --

Comprehension:

In the following passage some words have been deleted. Fill in the blanks with the help of the alternatives given.

Most animals have their own habitats _____ (1) some make long journeys from one region to another. This _____ (2) called migration. It takes place at a particular _____ (3) of the year. Birds are the best-known _____ (4) but many other animals also migrate to places with _____ (5) climate.

SubQuestion No : 18

Q.1
8 Select the most appropriate option to fill in blank number (2).

- Ans 1. are
 2. were
 3. was
 4. is

Question ID : 9895804498
Chosen Option : --

Comprehension:

In the following passage some words have been deleted. Fill in the blanks with the help of the alternatives given.

Most animals have their own habitats _____ (1) some make long journeys from one region to another. This _____ (2) called migration. It takes place at a particular _____ (3) of the year. Birds are the best-known _____ (4) but many other animals also migrate to places with _____ (5) climate.

SubQuestion No : 19

Q.1
9 Select the most appropriate option to fill in blank number (3).

- Ans 1. time
 2. part
 3. season
 4. month

Question ID : 9895804499
Chosen Option : --

Comprehension:

In the following passage some words have been deleted. Fill in the blanks with the help of the alternatives given.

Most animals have their own habitats _____ (1) some make long journeys from one region to another. This _____ (2) called migration. It takes place at a particular _____ (3) of the year. Birds are the best-known _____ (4) but many other animals also migrate to places with _____ (5) climate.

SubQuestion No : 20

Q.2
0 Select the most appropriate option to fill in blank number (4).

- Ans
- 1. tourists
 - 2. travellers
 - 3. migrants
 - 4. visitors

Question ID : 9895804500
Chosen Option : --

Comprehension:

In the following passage some words have been deleted. Fill in the blanks with the help of the alternatives given.

Most animals have their own habitats _____ (1) some make long journeys from one region to another. This _____ (2) called migration. It takes place at a particular _____ (3) of the year. Birds are the best-known _____ (4) but many other animals also migrate to places with _____ (5) climate.

SubQuestion No : 21

Q.2
1 Select the most appropriate option to fill in blank number (5).

- Ans
- 1. favourable
 - 2. extreme
 - 3. harsh
 - 4. cold

Question ID : 9895804501
Chosen Option : --

Q.2
2 Select the word which means the same as the group of words given.

A person who thinks he/she is the best.

- Ans
- 1. Eccentric
 - 2. Selfish
 - 3. Egoist
 - 4. Garrulous

Question ID : 9895804872
Chosen Option : --

Q.2
3 Select the antonym of the given word.

URGE

- Ans
- 1. Deter
 - 2. Triumph
 - 3. Request
 - 4. Persuade

Question ID : 9895804505
Chosen Option : --

Q.2
4 Select the correctly spelt word.

- Ans
- 1. Maintainance
 - 2. Maintainence
 - 3. Maintenance
 - 4. Mentainance

Question ID : 9895804510
Chosen Option : --

Q.2
5 Select the word which means the same as the group of words given.

A life history written by somebody else

- Ans
- 1. Biography
 - 2. Museology
 - 3. Bibliography
 - 4. Autobiography

Question ID : 9895804509
Chosen Option : --

Section : Hindi Language

Q.1 दिए गए शब्द के पर्यायवाची शब्द का चयन करें।

सर्प

- Ans
- 1. भूधर
 - 2. भूमि
 - 3. देवता
 - 4. भुजंग

Question ID : 9895804047
Chosen Option : 4

Q.2

दिए गए शब्द का विलोम चुनें।

जीवन

- Ans
- 1. सचेत
 - 2. जरा
 - 3. सम्मोहन
 - 4. मरण

Question ID : 9895804045

Chosen Option : 4

Q.3 दिए गए वाक्य में रेखांकित खंड को प्रतिस्थापित करने के लिए सबसे उपयुक्त विकल्प का चयन करें।

अध्यापिका को परीक्षा के लिए महत्वपूर्ण प्रश्न कराये।

- Ans
- 1. अध्यापिका का
 - 2. अध्यापिका के
 - 3. अध्यापिका के लिए
 - 4. अध्यापिका ने

Question ID : 9895804032

Chosen Option : 4

Q.4 दिए गए वाक्य का वह भाग ज्ञात करें जिसमें कोई त्रुटि है।

समय वह धन है जिसका दुरुपयोग करने से वह व्यर्थ चली जाती है।

- Ans
- 1. व्यर्थ चली जाती है।
 - 2. जिसका दुरुपयोग
 - 3. करने से वह
 - 4. समय वह धन है

Question ID : 9895804030

Chosen Option : 1

Q.5 दिए गए वाक्य का वह भाग ज्ञात करें जिसमें कोई त्रुटि है।

अपने से अधिक दूसरों का व्यथा से वे अधिक पीड़ित थे।

- Ans
- 1. पीड़ित थे।
 - 2. अपने से अधिक
 - 3. वे अधिक
 - 4. दूसरों का व्यथा से

Question ID : 9895804028
Chosen Option : 3

Q.6 दिए गए शब्द के पर्यायवाची शब्द का चयन करें।

पाणि

- Ans
- 1. पत्र
 - 2. पानी
 - 3. हाथ
 - 4. पत्ता

Question ID : 9895804046
Chosen Option : 4

Q.7 दिये गये वाक्यांश के लिए एक शब्द दीजिये।

साथ काम करने वाला

- Ans
- 1. सहकर्मी
 - 2. सहयोग
 - 3. सहधर्मी
 - 4. सहकर्म

Question ID : 9895804050
Chosen Option : 1

Comprehension:

निम्नलिखित गद्यांश के रिक्त स्थानों की पूर्ति गद्यांश के नीचे दिए गए प्रश्नों के अनुसार कीजिए -

कभी हमारा देश सांस्कृतिक _____ (1) के पद पर आसीन था। 'विश्व गुरु' होने के नाते इस देश ने समूचे _____ (2) को मानवता, नैतिकता और सदाचार की शिक्षा दी। अनेक ग्रन्थ इसके _____ (3) हैं। लेकिन समय के साथ हम _____ (4) मूल्यों को भूलने लगे। आज भी समाज में नैतिक मूल्यों की _____ (5) देखने को मिलती है।

SubQuestion No : 8

Q.8 गद्यांश में संकेतित रिक्त स्थान (1) के लिए उपयुक्त शब्द होगा

- Ans
- 1. अध्येता
 - 2. वक्ता
 - 3. गुरु
 - 4. उपदेशक

Question ID : 9895804039

Chosen Option : 1

Comprehension:

निम्नलिखित गद्यांश के रिक्त स्थानों की पूर्ति गद्यांश के नीचे दिए गए प्रश्नों के अनुसार कीजिए -

कभी हमारा देश सांस्कृतिक _____(1) के पद पर आसीन था। 'विश्व गुरु' होने के नाते इस देश ने समूचे _____(2) को मानवता, नैतिकता और सदाचार की शिक्षा दी। अनेक ग्रन्थ इसके _____(3) हैं। लेकिन समय के साथ हम _____(4) मूल्यों को भूलने लगे। आज भी समाज में नैतिक मूल्यों की _____(5) देखने को मिलती है।

SubQuestion No : 9

Q.9 गद्यांश में संकेतित रिक्त स्थान (2) के लिए उपयुक्त शब्द होगा

- Ans
- 1. अमेरिका
 - 2. यूरोप
 - 3. यूनान
 - 4. विश्व

Question ID : 9895804040

Chosen Option : 3

Comprehension:

निम्नलिखित गद्यांश के रिक्त स्थानों की पूर्ति गद्यांश के नीचे दिए गए प्रश्नों के अनुसार कीजिए -

कभी हमारा देश सांस्कृतिक _____(1) के पद पर आसीन था। 'विश्व गुरु' होने के नाते इस देश ने समूचे _____(2) को मानवता, नैतिकता और सदाचार की शिक्षा दी। अनेक ग्रन्थ इसके _____(3) हैं। लेकिन समय के साथ हम _____(4) मूल्यों को भूलने लगे। आज भी समाज में नैतिक मूल्यों की _____(5) देखने को मिलती है।

SubQuestion No : 10

Q.10 गद्यांश में संकेतित रिक्त स्थान (3) के लिए उपयुक्त शब्द होगा

- Ans
- 1. साक्षी
 - 2. प्रभाव
 - 3. प्रकाश
 - 4. परिमाण

Question ID : 9895804041

Chosen Option : 1

Comprehension:

निम्नलिखित गद्यांश के रिक्त स्थानों की पूर्ति गद्यांश के नीचे दिए गए प्रश्नों के अनुसार कीजिए -

कभी हमारा देश सांस्कृतिक _____(1) के पद पर आसीन था। 'विश्व गुरु' होने के नाते इस देश ने समूचे _____(2) को मानवता, नैतिकता और सदाचार की शिक्षा दी। अनेक ग्रन्थ इसके _____(3) हैं। लेकिन समय के साथ हम _____(4) मूल्यों को भूलने लगे। आज भी समाज में नैतिक मूल्यों की _____(5) देखने को मिलती है।

SubQuestion No : 11

Q.1
1 गद्यांश में संकेतित रिक्त स्थान (4) के लिए उपयुक्त शब्द होगा

- Ans
- 1. मानसिक
 - 2. नैतिक
 - 3. राजनीतिक
 - 4. भौतिक

Question ID : 9895804042
Chosen Option : 2

Comprehension:

निम्नलिखित गद्यांश के रिक्त स्थानों की पूर्ति गद्यांश के नीचे दिए गए प्रश्नों के अनुसार कीजिए -

कभी हमारा देश सांस्कृतिक _____(1) के पद पर आसीन था। 'विश्व गुरु' होने के नाते इस देश ने समूचे _____(2) को मानवता, नैतिकता और सदाचार की शिक्षा दी। अनेक ग्रन्थ इसके _____(3) हैं। लेकिन समय के साथ हम _____(4) मूल्यों को भूलने लगे। आज भी समाज में नैतिक मूल्यों की _____(5) देखने को मिलती है।

SubQuestion No : 12

Q.1
2 गद्यांश में संकेतित रिक्त स्थान (5) के लिए उपयुक्त शब्द होगा

- Ans
- 1. उत्थान
 - 2. पूर्णता
 - 3. कमी
 - 4. अधिकता

Question ID : 9895804043
Chosen Option : 1

Q.1
3 दिए गए वाक्य में रेखांकित खंड को प्रतिस्थापित करने के लिए सबसे उपयुक्त विकल्प का चयन करें।

कल मैं दिल्ली से वापस जयपुर गई थी, यहाँ से आगरा गई थी।

- Ans
- 1. यहाँ पर आगरा गई थी।
 - 2. यहाँ आगरा पर गई।
 - 3. वहाँ से आगरा गई थी।
 - 4. वहाँ पर आगरा गई थी।

Question ID : 9895804033
Chosen Option : 3

Q.1
4 रिक्त स्थान को भरने के लिए सबसे उपयुक्त शब्द का चयन करें।

समय पर बिल का भुगतान करें _____ बिजली काट दी जाएगी।

- Ans
- 1. या
 - 2. परंतु
 - 3. अन्यथा
 - 4. लेकिन

Question ID : 9895804035
Chosen Option : 3

Q.1
5 रिक्त स्थान को भरने के लिए सबसे उपयुक्त शब्द का चयन करें।

आपके दर्शन _____ हैं।

- Ans
- 1. पानी
 - 2. दुर्लभ
 - 3. कल
 - 4. सामने

Question ID : 9895804036
Chosen Option : 2

Q.1
6 रिक्त स्थान को भरने के लिए सबसे उपयुक्त शब्द का चयन करें।

अधिक जनसंख्या भारत के लिए _____ है।

- Ans
- 1. मोक्ष
 - 2. अभिशाप
 - 3. त्रासदी
 - 4. नियम

Question ID : 9895804034

Chosen Option : 2

Q.1 निम्नलिखित में से उस विकल्प का चयन करें जो 'घाव पर नमक छिड़कना' मुहावरे का अर्थ व्यक्त करता है।

- Ans
- 1. बीती बातें याद करना
 - 2. घाव के ऊपर नमक छिड़क देना
 - 3. कष्ट को और बढ़ाना
 - 4. दुखी व्यक्ति को दिलासा देना

Question ID : 9895804049
Chosen Option : 3

Q.1 रिक्त स्थान को भरने के लिए सबसे उपयुक्त शब्द का चयन करें।

आज मौसम बहुत _____ है।

- Ans
- 1. सुहाना
 - 2. दुर्गंध
 - 3. बीमार
 - 4. सुगंध

Question ID : 9895804037
Chosen Option : 1

Q.1 दिए गए वाक्य का वह भाग ज्ञात करें जिसमें कोई त्रुटि है।

हम जिस वस्तु की कामना करते हैं उसी से हमारे कर्म की उत्पत्ति होता है।

- Ans
- 1. कामना करते हैं
 - 2. उत्पत्ति होता है।
 - 3. उसी से हमारे कर्म की
 - 4. हम जिस वस्तु की

Question ID : 9895804029
Chosen Option : 2

Q.2 सही वर्तनी वाले शब्द का चयन करें।

- Ans
- 1. निर्यात
 - 2. निर्यात
 - 3. नीर्यात
 - 4. निरयात

Question ID : 9895804052

Chosen Option : 2

Q.2
1 दिये गये वाक्यांश के लिए एक शब्द दीजिये।

आकाश को छूने वाला

- Ans
- 1. गगन
 - 2. गगनचुंबी
 - 3. खगोलीय
 - 4. आकाशीय

Question ID : 9895804051
Chosen Option : 4

Q.2
2 निम्नलिखित में से उस विकल्प का चयन करें जो 'गागर में सागर भरना' मुहावरे का अर्थ व्यक्त करता है।

- Ans
- 1. अधिक शब्दों में अधिक विचार
 - 2. कम विचार आना
 - 3. गागर से सागर को भरना
 - 4. थोड़े शब्दों में अधिक कहना

Question ID : 9895804048
Chosen Option : 4

Q.2
3 दिए गए शब्द का विलोम चुनें।

जागरण

- Ans
- 1. निद्रा
 - 2. अनिद्रा
 - 3. जागना
 - 4. सचेत

Question ID : 9895804044
Chosen Option : 1

Q.2
4 सही वर्तनी वाले शब्द का चयन करें।

- Ans
- 1. विद्यार्थि
 - 2. वीद्यार्थी
 - 3. विद्यर्थी
 - 4. विद्यार्थी

Question ID : 9895804053
Chosen Option : 4

Q.2

5 दिए गए वाक्य में रेखांकित खंड को प्रतिस्थापित करने के लिए सबसे उपयुक्त विकल्प का चयन करें।

मैं जिस भारतीय प्रजातंत्र की कल्पना करता हूँ, उसका अध्यक्ष कोई किसान ही होगा।

Ans

1. उनका अध्यक्ष भी किसान होगा।
2. उसकी अध्यक्ष कोई किसान होगी।
3. उसका अध्यक्ष कोई किसान ही होगा।
4. उसकी अध्यक्ष कोई किसान होगा।

Question ID : 9895804031
Chosen Option : 2

KD Job Updates

Constable (GD) In CAPFs, NIA, SSF and Rifleman (GD) In Assam Rifles Examination, 2018

Roll No. :	
Registration No.	
Name :	
Exam Venue :	
Exam Time :	12:30 PM - 2:00 PM
Exam Date :	15/02/2019

Section : **General Section**

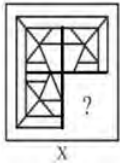
Q1 उस विकल्प का चयन करें जो तीसरे पद से उसी प्रकार से संबंधित है जिस प्रकार दूसरा पद प्रथम पद से संबंधित है।

रोग लक्षण विद्या (पेथोलोजी) : रोग (डिसीज़) :: खगोलशास्त्र (एस्ट्रोनॉमी):?

- Ans**
1. खोल/शंख (शेल्स)
2. ग्रहों (प्लेनेट्स)
3. भविष्य (फ्यूचर)
4. मिट्टी (सोइल)

Question ID : 9895803599
Chosen Option : 2

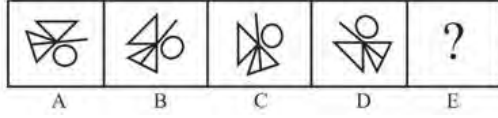
Q2 दिए गए चार विकल्पों में से किसी एक आकृति का चयन करें जिस, जब आकृति X में रिक्त स्थान (?) में रखा जाए, तो पैटर्न को पूर्ण करेगी। (घूर्णन की अनुमति नहीं है)।



- Ans**
- 1.
- 2.
- 3.
- 4.

Question ID : 9895803616
Chosen Option : 3

Q3 विकल्पों में से उस आकृति का चयन करें जो दी गई श्रृंखला में अगले स्थान पर आएगी।



Ans

- 1.
- 2.
- 3.
- 4.

Question ID : 9895803615
Chosen Option : 2

Q4 उस विकल्प का चयन करें जो तीसरे पद से उसी प्रकार से संबंधित है जिस प्रकार दूसरा पद प्रथम पद से संबंधित है।

प्रसिद्ध : गुमनाम :: पागल : ?

Ans

1. मूर्ख
2. समझदार
3. नाली (सिंक)
4. चालाक

Question ID : 9895803600
Chosen Option : 2

Q5 उस विकल्प का चयन करें जो दी गई श्रृंखला में प्रश्न चिन्ह (?) के स्थान पर सही ढंग से आएगा। 109, 105, 89, 53, ?

Ans

1. 11
2. -10
3. 10
4. -11

Question ID : 9895803609
Chosen Option : 4

Q6

विकल्पों में से उस आकृति का चयन करें जिसमें 'X' से चिह्नित आकृति समाहित है। (घुमाने की अनुमति नहीं है)



Ans

- 1.
- 2.
- 3.
- 4.

Question ID : 9895803617
Chosen Option : 1

Q7 उस विकल्प का चयन करें जो दी गई पैटर्न में प्रश्न चिन्ह (?) के स्थान पर सही ढंग से आएगा।



Ans

1. 36
2. 6
3. 206
4. 216

Question ID : 9895803613
Chosen Option : 4

Q8 एक निश्चित कूट भाषा में, AXE को 120 के रूप में लिखा जाता है। उस कूट भाषा में FEE को कैसे लिखा जाएगा?

Ans

1. 60
2. 80
3. 150
4. 20

Question ID : 9895803603
Chosen Option : 3

Q9 दिए गए विकल्पों में से असंगत विकल्प का चयन करें।

Ans

1. लाल
2. बैंगनी
3. नीला

4. पीला

Question ID : 9895803598
Chosen Option : 2

Q10 नीचे दो कथन दिए गए हैं, जिनके बाद दो निष्कर्ष I और II हैं। यह मान कर की कथन में दी गई जानकारी सत्य है चाहे वह सामान्यतः ज्ञात तथ्यों से भिन्न प्रतीत होतीहों, तय करें कि इनमें से कौन सा(से) निष्कर्ष तार्किक आधार पर और निश्चित रूप से कथनों में दी गई जानकारी का अनुसरण करता(ते) है(हैं)

कथन:

- 1) कुछ क्रोध शोक हैं।
- 2) कुछ शोक प्यार हैं।

निष्कर्ष:

- I. कुछ शोक क्रोध हैं।
- II. कुछ प्यार शोक हैं।

Ans

✓ 1. दोनों ही निष्कर्ष अनुसरण करते हैं।

✗ 2. केवल निष्कर्ष II अनुसरण करता है।

✗ 3. न तो निष्कर्ष I और न ही निष्कर्ष II अनुसरण करता है।

✗ 4. केवल निष्कर्ष I अनुसरण करता है।


Question ID : 9895803608
Chosen Option : I

Q11 निम्नलिखित में से कौन सा वेन रेखाचित्र दिए गए वर्ग के बीच के संबंध को सही दर्शाता है?

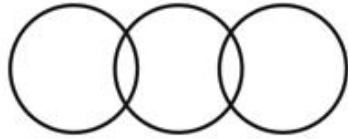
फर्नीचर, कुर्सियाँ, पेड़

Ans

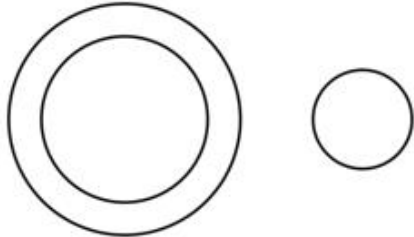
✗ 1.




✗ 2.



✓ 3.



4.



Question ID : 9895803620
Chosen Option : 4

Q12 उस विकल्प का चयन करे जो दी गई श्रृंखला में प्रश्न चिन्ह (?) के स्थान पर सही ढंग से आएगा।

9, 21, 38, 65, ?

Ans 1. 105

2. 125

3. 115

4. 107

Question ID : 9895803610
Chosen Option : 4

Q13 आठ मित्र A, B, C, D, E, F, G और H दोपहर के भोजन के लिए एक वृत्ताकार मेज के आस पास एकदूसरे के आमने सामने बैठे हैं। A, D के सामने और B की दाईं ओर तीसरे स्थान पर है। G, A और F के बीच में है। H, A की ठीक दाईं ओर है। E, C और D के बीच में है।

C के सामने कौन बैठा है?

Ans 1. F

2. B

3. E

4. G

Question ID : 9895803605
Chosen Option : 1

Q14 उस विकल्प का चयन करे जो दी गई श्रृंखला में प्रश्न चिन्ह (?) के स्थान पर सही ढंग से आएगा।

TOD, RQB, PSZ, NUX, ?

Ans 1. LWW

2. LWU

3. LWV

4. LVW

Question ID : 9895803596
Chosen Option : 3

Q15 उस विकल्प का चयन करे जो तीसरे पद से उसी प्रकार से संबंधित है जिस प्रकार दूसरा पद प्रथम पद से संबंधित है।

EFG :JLN : : GKM : ?

Ans

- 1. NUZ
- 2. NVZ
- 3. NZY
- 4. KMG

Question ID : 9895803601
Chosen Option : 2

Q16 निम्नलिखित समीकरण को सही करने के लिए विकल्पों में दिए गए किन दो चिहनों को परस्पर बदला जाना चाहिए?

$$15 + 15 \times 15 - 15 \div 15 = 15$$

- Ans
- 1. + और ×
 - 2. - और ÷
 - 3. + और -
 - 4. × और ÷

Question ID : 9895803614
Chosen Option : 2

Q17 एक वर्गाकार पारदर्शी शीट एक पैटर्न के साथ दी गई है। जब शीट को बिंदीदार रेखा पर मोड़ा जाता है तो पैटर्न कैसा दिखाई देगा?



- Ans
- 1.
 - 2.
 - 3.
 - 4.

Question ID : 9895803619
Chosen Option : 4

Q18 दिए गए विकल्पों में से असंगत का चयन करें।

- Ans
- 1. 45
 - 2. 75
 - 3. 105
 - 4. 85

Question ID : 9895803612
Chosen Option : 4

Q19 दिए गए विकल्पों में से असंगत विकल्प का चयन करें।

- Ans 1. CHI
 2. DGJ
 3. BIJ
 4. EGI

Question ID : 9895803597

Chosen Option : 1

Q20 नीचे दो कथन दिए गए हैं, जिनके बाद दो निष्कर्ष I और II हैं। यह मान कर की कथन में दी गई जानकारी सत्य है चाहे वह सामान्यतः ज्ञात तथ्यों से भिन्न प्रतीत होतीहों, तय करें कि इनमें से कौन सा(से) निष्कर्ष तार्किक आधार पर और निश्चित रूप से कथनों में दी गई जानकारी का अनुसरण करता(ते) है(हैं)।

कथन:

- 1) सभी कीले पिन्स हैं।
- 2) सभी हथौड़े पिन्स हैं।

निष्कर्ष:

- I. कोई भी कील पिन नहीं है।
- II. कुछ पिन्स कीले हैं।

- Ans 1. न तो निष्कर्ष I और न ही निष्कर्ष II अनुसरण करता है।
 2. केवल निष्कर्ष I अनुसरण करता है।
 3. दोनों ही निष्कर्ष अनुसरण करते हैं।
 4. केवल निष्कर्ष II अनुसरण करता है।

Question ID : 9895803607

Chosen Option : 4

Q21 सात मित्र O, P, Q, R, S, T और U एक पंक्ति में बैठे फिल्म देख रहे हैं। P एक अंतिम छोर पर बैठा हुआ है। Q, S के ठीक बाईं ओर बैठा है। P, T की दाईं ओर दूसरे स्थान पर बैठा है। U किसी भी अंतिम छोर पर नहीं बैठा है।

P और T के बीच कौन बैठा है?

- Ans 1. U
 2. O
 3. R
 4. Q

Question ID : 9895803604

Chosen Option : 2

Q22 एक निश्चित कूट भाषा में, LOVE को OLEV के रूप में लिखा जाता है। उस कूट भाषा में IRIS को कैसे लिखा जाएगा?

- Ans 1. RISI
 2. IIRS
 3. RSII

Q23 उस विकल्प का चयन करें जो, जब दर्पण को दाईं ओर रखा जाए, तो दी गई आकृतिकी दर्पण छवि से सर्वाधिक मिलता जुलता हो।



Ans



Q24 उस विकल्प का चयन करें जो तीसरे पद से उसी प्रकार से संबंधित है जिस प्रकार दूसरा पद प्रथम पद से संबंधित है।

24 : 4 :: 45 : ?

Ans



Q25 J, K, L, M, N और O छह शिक्षक हैं। उनमें से प्रत्येक हिंदी, अंग्रेजी, गणित, विज्ञान, सामाजिक विज्ञान और कला में से एक अलग विषय पढ़ाता है, जरूरी नहीं कि उसी क्रम में हो। उनमें से प्रत्येक सोमवार से शनिवार तक केवल एक दिन ही पढ़ाता है, जरूरी नहीं कि उसी क्रम में हो।

J बुधवार को विज्ञान पढ़ाता है। O, J के बाद दूसरा है, और गणित पढ़ाता है। K सप्ताह के पहले दिन पढ़ाता है, लेकिन वह न तो हिंदी पढ़ाता है और न ही अंग्रेजी। M, N से पहले अंग्रेजी पढ़ाता है और L, J से पहले कला पढ़ाता है।

शनिवार के दिन कौन पढ़ाता है?

Ans



Q26 pH स्केल की रेंज कितनी होती है?

- Ans 1. 0 से 14
 2. 1 से 7
 3. 0 से 10
 4. 1 से 10

Question ID : 9895804997
Chosen Option : 1

Q27 निम्न में से किस देश में संवैधानिक शक्तियों का वितरण केंद्र और राज्य दोनों के बीच किया गया है?

- Ans 1. भारत
 2. न्यूजीलैंड
 3. संयुक्त राज्य अमेरिका
 4. ऑस्ट्रेलिया

Question ID : 9895804989
Chosen Option : 4

Q28 पुस्तक 'एकजाम वारियर्स' के लेखक कौन हैं?

- Ans 1. सुषमा स्वराज
 2. मनमोहन सिंह
 3. नरेन्द्र मोदी
 4. अरुण जेटली

Question ID : 9895804993
Chosen Option : 3

Q29 2018 में किस टेनिस खिलाड़ी को खेल के लिए पद्म श्री से सम्मानित किया गया था?

- Ans 1. युकी भांबरी
 2. सोमदेव देववर्मन
 3. सानिया मिर्जा
 4. लिण्डर पेस

Question ID : 9895804995
Chosen Option : 2

Q30 डॉल्फिन, शिंशुमार और व्हेल मछलियों को क्या कहा जाता है?

- Ans
- 1. एम्फीबियन
 - 2. सेटासीन
 - 3. स्मैक
 - 4. ओडोंटोसीट्स

Question ID : 9895804984
Chosen Option : 1

Q31 भारत में किस ब्रिटिश वायसराय ने बंगाल विभाजन को अंजाम दिया?

- Ans
- 1. लार्ड डलहौजी
 - 2. लार्ड कर्जन
 - 3. लार्ड कैनिंग
 - 4. लार्ड लिटन

Question ID : 9895805002
Chosen Option : 2

Q32 मौर्य साम्राज्य की राजधानी कौन सी थी?

- Ans
- 1. पाटलिपुत्र
 - 2. कुशीनगर
 - 3. वैशाली
 - 4. इंद्रप्रस्थ

Question ID : 9895804988
Chosen Option : 1

Q33 भारत का सबसे बड़ा बॉक्साइट उत्पादक राज्य कौन सा है?

- Ans
- 1. बिहार
 - 2. झारखण्ड
 - 3. ओडिशा
 - 4. मध्य प्रदेश

Question ID : 9895804985
Chosen Option : 3

Q34 कलरीपायट्टु किस भारतीय राज्य की प्रसिद्ध युद्ध कला है?

- Ans
- 1. कर्नाटक
 - 2. केरल

3. तमिलनाडु

4. ओडिशा

Question ID : 9895804983
Chosen Option : 4

Q.35 एक ही भूमि पर एक साथ दो या दो से अधिक फसलें उगाना कौन सी फसल प्रणाली से संबंधित है?

Ans 1. मिश्रित

2. जटिल

3. अंतर

4. साधारण

Question ID : 9895804998
Chosen Option : 1

Q.36 दही बनाने में _____ बैक्टीरिया सहायक होते हैं।

Ans 1. लैक्टिक एसिड

2. लैक्टोबैसिलस एसिडोफाइलस

3. बैसिलस कोगुलेंस

4. बाईफिडोबैक्टीरियम बिफीडम

Question ID : 9895804999
Chosen Option : 2

Q.37 केंद्र सरकार द्वारा राष्ट्रीय खेल विकास कोष (NSDF) वर्ष की स्थापना किस वर्ष की गई थी?

Ans 1. 1999

2. 1997

3. 1998

4. 1996

Question ID : 9895804982
Chosen Option : 3

Q.38 निम्न में से कौन सा भारत का राष्ट्रीय जलीय जंतु है?

Ans 1. रिवर डॉल्फिन

2. समुद्री घोड़ा

3. व्हेल

4. कछुआ

Question ID : 9895805000

Q39 'जरूरतों का दोहरा संयोग' किस प्रणाली की विशेषता है?

- Ans
- 1. विदेशी मुद्रा विनिमय प्रणाली
 - 2. वस्तु विनिमय प्रणाली
 - 3. इक्विटी प्रणाली
 - 4. तरलता प्रणाली

Question ID : 9895804981
Chosen Option : 2

Q40 पैगम्बर मुहम्मद की जयंती को मनाने के लिए कौन सा त्यौहार मनाया जाता है?

- Ans
- 1. ईद-उल-फितर
 - 2. शब-ए-बारात
 - 3. ईद-उल-जुहा
 - 4. मिलाद-उन-नबी

Question ID : 9895804987
Chosen Option : 4

Q41 बाल लिंगानुपात क्या होता है?

- Ans
- 1. 0-15 आयु वर्ग में प्रति हजार महिलाओं पर पुरुषों की संख्या
 - 2. 0-6 आयु वर्ग में प्रति सौ पुरुषों पर महिलाओं की संख्या
 - 3. 0-15 आयु वर्ग में प्रति सौ पुरुषों पर महिलाओं की संख्या
 - 4. 0-6 आयु वर्ग में प्रति हजार पुरुषों पर महिलाओं की संख्या

Question ID : 9895804991
Chosen Option : 4

Q42 भारत में उपभोक्ता आंदोलन को जन्म देने वाले कारकों के बारे में निम्नलिखित में से कौन सा कथन सही नहीं है?

- Ans
- 1. शीतल पेय पर कर
 - 2. बार-बार खाद्य की कमी
 - 3. खाद्य में मिलावट
 - 4. जमाखोरी और कालाबाजारी

Question ID : 9895804992
Chosen Option : 1

Q43 वर्ष 1992 में ब्राजील की राजधानी रियो डे जेनेरियो में UNCED में किस घोषणापत्र पर हस्ताक्षर किए गए?

- Ans 1. एजेंडा 21
 2. एजेंडा 22
 3. एजेंडा 19
 4. एजेंडा 39

Question ID : 9895804979
Chosen Option : 1

Q44 जून-जुलाई में बोयी और सितम्बर-अक्टूबर में काटी जाने वाली फसलें किस विकल्प में दी गई हैं?

- Ans 1. धान, कपास
 2. मटर, गेहूँ
 3. तरबूज, जौ
 4. खीरा, तरबूज

Question ID : 9895804986
Chosen Option : 1

Q45 निम्न में से क्या राज्य सूची में शामिल है?

- Ans 1. बैंकिंग
 2. रक्षा
 3. पुलिस
 4. वन

Question ID : 9895804990
Chosen Option : 3

Q46 आगरा के मोती मस्जिद किस मुगल शासक से बद्ध है?

- Ans 1. शाह जहाँ
 2. अकबर
 3. औरंगजेब
 4. हुमायूँ

Question ID : 9895805001
Chosen Option : 1

Q47 जून 2018 में किसने स्टुटगार्ट ओपन प्रतिस्पर्धा में पुरुष एकल वर्ग का अपना पहला खिताब जीता था?

- Ans 1. रोजर फेडरर

- 2. डोमिनिक थिएम
- 3. माइलस राओनिक
- 4. निकोलस माहुट

Question ID : 9895804980
Chosen Option : 4

Q48 ओला ने हाल ही में किस खाद्य आपूर्ति सेवा प्रदाता कंपनी का अधिग्रहण किया है?

- Ans
- 1. फूडपांडा
 - 2. जोमैटो
 - 3. स्विगी
 - 4. उबेर ईट्स

Question ID : 9895804996
Chosen Option : 1

Q49 गंगा नदी को साफ करने के बेहतर प्रयास के लिए किस स्टार्टअप को यूएन द्वारा हाल ही में सम्मानित किया गया था?

- Ans
- 1. हेल्प अस ग्रीन
 - 2. सतपुड़ा फाउन्डेशन
 - 3. वर्ल्ड वाइड फंड
 - 4. नवदन्य ट्रस्ट

Question ID : 9895804994
Chosen Option : 2

Q50 रॉलेट सत्याग्रह कब और किसके द्वारा की गई?

- Ans
- 1. 1915, मोतीलाल नेहरु
 - 2. 1930, सी. आर. दास
 - 3. 1929, महात्मा गाँधी
 - 4. 1919, महात्मा गाँधी

Question ID : 9895804978
Chosen Option : 4

Q51

निम्नलिखित तालिका का अध्ययन करें और प्रश्न का उत्तर दें।
पांच शहरों से परीक्षा में शामिल हुए छात्रों की संख्या:

शहर	छात्रों की संख्या (हजार में)	उत्तीर्ण और अनुत्तीर्ण छात्रों का अनुपात
A	54	5 : 4
B	126	4 : 3
C	84	10 : 11
D	96	9 : 7
E	132	6 : 5

B और E शहरों से असफल रहे छात्रों की कुल संख्या के मुकाबले शहरों A और D से परीक्षा में उत्तीर्ण छात्रों की कुल संख्या का अनुपात क्या है?

- Ans 1. 14 : 19
 2. 13 : 18
 3. 5 : 9
 4. 9 : 16

Question ID : 9095005175

Chosen Option : 1

Q52 तेल की कीमत में 20% की वृद्धि हुई है। जबकि, इस पर खर्च 15% बढ़ जाता है। तेल की खपत की वृद्धि या कमी का प्रतिशत क्या है?

- Ans 1. $6\frac{1}{4}\%$, कमी
 2. $4\frac{1}{6}\%$, वृद्धि
 3. $6\frac{1}{4}\%$, वृद्धि
 4. $4\frac{1}{6}\%$, कमी

Question ID : 9095005161

Chosen Option : 3

Q53 यदि x सबसे छोटी संख्या है जिसे 12, 15, 18, 20 और 27 से जब विभाजित किया जाता है, तो प्रत्येक मामले में शेष 2 बचेगा, लेकिन x , 23 से विभाज्य है। यदि x को उसके अंकों के योग से विभाजित किया जाता है तो भागफल है:

- Ans 1. 193
 2. 149
 3. 199
 4. 196

Question ID : 9095005153

Chosen Option : 2

Q54 एक आयतफलकी बॉक्स का सतही क्षेत्रफल 240 cm^2 है और इसके विकर्ण की लम्बाई 11 cm है। इसकी लंबाई, चौड़ाई और गहराई का योग (cm में) क्या है?

- Ans 1. 20

2. 17
3. 21
4. 19

Question ID : 9895805170
Chosen Option : 4

Q55 दो ट्रेनें A और B जो 186 m और 200 m लंबी हैं, जो समानांतर पटरियों पर क्रमशः 64 km/h और 80 km/h पर चल रही हैं। यदि वे विपरीत दिशाओं में चल रहे हैं, तो पहली ट्रेन A में बैठे व्यक्ति को दूसरी ट्रेन पार करने में कितना समय लगेगा? (sec में)

- Ans** 1. 4.5
2. 5.5
3. 6
4. 5

Question ID : 9895805172
Chosen Option : 1

Q56 4 साल पहले A और B की आयु का अनुपात 5 : 7 था। अब से 4 वर्ष बाद उनकी आयु का अनुपात 7 : 9 होगा। अब से 12 वर्ष बाद A और B की आयु का अनुपात क्या होगा?

- Ans** 1. 15 : 19
2. 8 : 13
3. 9 : 11
4. 13 : 17

Question ID : 9895805163
Chosen Option : 3

Q57 $\left[\frac{2}{3} \div \frac{8}{15} \text{ of } \frac{2}{5} + \frac{2}{5} \text{ of } 7 \frac{1}{2} \div \frac{3}{4} \right] \text{ of } \frac{4}{19}$ का मान है:

- Ans** 1. 1
2. $1 \frac{1}{2}$
3. $1 \frac{1}{4}$
4. $\frac{1}{2}$

Question ID : 9895805154
Chosen Option : 3

Q58 17 संख्याओं का औसत 29 है। पहले 9 संख्याओं का औसत 31 है और अंतिम 9 संख्याओं का औसत 27 है। यदि 9वीं संख्या को बाहर रखा जाए, तो शेष संख्याओं का औसत क्या है?

- Ans** 1. 29
2. 31.6
3. 31

4. 29.5

Question ID : 9895805157
Chosen Option : 1

Q59 समबाहु त्रिभुज का क्षेत्रफल एक रोम्बस के क्षेत्रफल का $6\sqrt{3}$ गुना है जिसकी एक भुजा (साइड) की माप 13 cm और एक विकर्ण 10 cm है। त्रिकोण के पार्श्व की लंबाई, cm में, है:

- Ans**
- 1. $36\sqrt{6}$
 - 2. $24\sqrt{6}$
 - 3. $12\sqrt{6}$
 - 4. $24\sqrt{5}$

Question ID : 9895805168
Chosen Option : 2

Q60 एक दुकानदार निश्चित मूल्य पर किसी वस्तु बेचता है, तो उसके लाभ या हानि का प्रतिशत(%) क्या होगा। यदि उसे निश्चित मूल्य के 75% पर बेचकर, उसे 10% का नुकसान होता है?

- Ans**
- 1. लाभ, 20%
 - 2. नुकसान, 25%
 - 3. लाभ, 25%
 - 4. नुकसान, 20%

Question ID : 9895805160
Chosen Option : 1

Q61 अनु किसी वस्तु को 25% के लाभ पर बेचती है। यदि वह उसे 25% कम पर खरीदती है और इसे ₹30.25 में बेचती है, तो उसे 30% का फायदा होता है। वस्तु का मूल मूल्य क्या है? (₹ में)

- Ans**
- 1. 110
 - 2. 108
 - 3. 105.50
 - 4. 105.80

Question ID : 9895805159
Chosen Option : 1

Q62 8 माह में, प्रति वर्ष 12% की चक्रवृद्धि दर से ₹12000 की राशि 2 साल के बाद ₹x होगा। x का मान (पूर्णांक के निकटतम) ज्ञात करें?

- Ans**
- 1. 15111
 - 2. 15117
 - 3. 15053
 - 4. 15083

Question ID : 9895805166
Chosen Option : 2

Q63 एक धातु क्षेत्र की त्रिज्या 3 cm है। जब इसे पिघलाया जाता है और 0.1 cm की एक समान परिपत्र/वृत्तीय खंड के एक तार में खींचा जाता है। तार की लंबाई क्या होगी?(m में):

- Ans** 1. 36
 2. 44
 3. 24
 4. 40

Question ID : 9895805169
Chosen Option : 2

Q64 निम्नलिखित तालिका का अध्ययन करें और प्रश्न का उत्तर दें।
पांच शहरों से परीक्षा में शामिल हुए छात्रों की संख्या:

शहर	छात्रों की संख्या (हजार में)	उत्तीर्ण और अनुत्तीर्ण छात्रों का अनुपात
A	54	5 : 4
B	126	4 : 3
C	84	10 : 11
D	96	9 : 7
E	132	6 : 5

शहरों की संख्या, जिसमें छात्रों का उत्तीर्ण प्रतिशत 56% से अधिक है:

- Ans** 1. 4
 2. 1
 3. 2
 4. 3

Question ID : 9895805176
Chosen Option : 3

Q65 पात्र A और B में स्पिरिट और पानी के अनुपात क्रमशः 4 : 5 और 7 : 11 हैं। A और B की अंतर्वस्तु को 2 : 5 के अनुपात में मिलाया जाता है। परिणामस्वरूप घोल में स्पिरिट और पानी का अनुपात क्या है?

- Ans** 1. 13 : 20
 2. 22 : 75
 3. 53 : 75
 4. 17 : 25

Question ID : 9895805164
Chosen Option : 1

Q66

एक समूह में छात्रों की एक निश्चित संख्या का औसत वजन 54 kg है। यदि 52 kg वजन वाले 12 छात्र इस समूह में शामिल होते हैं, तो समूह के सभी छात्रों का औसत वजन घट कर 750g हो जाता है, तो शुरू में समूह के छात्रों की संख्या कितनी थी?

Ans 1. 20

2. 18

3. 15

4. 24

Question ID : 9895805156

Chosen Option : 2

Q.67 निम्नलिखित तालिका का अध्ययन करें और प्रश्न का उत्तर दें।
पांच शहरों से परीक्षा में शामिल हुए छात्रों की संख्या:

शहर	छात्रों की संख्या (हजार में)	उत्तीर्ण और अनुत्तीर्ण छात्रों का अनुपात
A	54	5 : 4
B	126	4 : 3
C	84	10 : 11
D	96	9 : 7
E	132	6 : 5

C और D शहरों से परीक्षा में बैठने वाले छात्रों की कुल संख्या A, B और E शहरों में असफल रहे छात्रों की कुल संख्या से कितने प्रतिशत अधिक है? (पूर्णांक के निकटतम)

Ans 1. 41

2. 44

3. 42

4. 30

Question ID : 9895805177

Chosen Option : 2

Q.68 एक व्यक्ति चिह्नित मूल्य पर 10% की छूट देने के बाद 17% का लाभ कमाता है। यदि वह चिह्नित मूल्य पर 14% की छूट देता है, तो उच्च लाभ का प्रतिशत क्या होगा:

Ans 1. 14.6

2. 23.8

3. 10.6

4. 11.8

Question ID : 9895805158

Chosen Option : 3

Q.69 दो पाइप X और Y एक खाली टैंक को t मिनटों में भर सकते हैं। यदि पाइप X अकेले टैंक को भरने के लिए t से 6 मिनट अधिक लेता है और Y अकेले टैंक को भरने के लिए t से 54 मिनट अधिक लेता है, तो X और Y मिलकर टैंक को कितनी देर में भरेंगे?

Ans 1. 24 सेकंड

2. 12 सेकंड

✓ 3. 18 सेकंड

✗ 4. 27 सेकंड

Question ID : 9895805173
Chosen Option : 3

Q70 डेटा के माध्य और माध्यिका के बीच का अंतर 66, 59, 68, 65, 62, 59, 58, 56, 63, 65 क्या है?

Ans ✗ 1. 1

✗ 2. 0.5

✓ 3. 0.4

✗ 4. 0.8

Question ID : 9895805167
Chosen Option : 2

Q71 सुरभि अगर किसी काम को 24 दिनों में पूरा कर सकती है। परन्तु उसने काम का $\frac{3}{8}$ हिस्सा पूरा किया और फिर उसे छोड़ दिया। बचे हुए काम को अमिता 10 दिनों में पूरा करती है। यदि दोनों के एक साथ काम करने पर वे उसी काम का 125% पूरा करेंगे:

Ans ✗ 1. 10 दिन में

✓ 2. 12 दिन में

✗ 3. 15 दिन में

✗ 4. 9 दिन में

Question ID : 9895805174
Chosen Option : 2

Q72 प्रति वर्ष 4% के साधारण व्याज की दर से, $1\frac{1}{2}$ वर्षों में, एक निश्चित राशि ₹9243.20 के बराबर होता। $7\frac{1}{2}$ वर्ष के लिए समान योग पर 8% प्रति वार्षिक दर से साधारण व्याज क्या होगा?

Ans ✗ 1. ₹5223

✗ 2. ₹5580

✓ 3. ₹5232

✗ 4. ₹5508

Question ID : 9895805165
Chosen Option : 3

Q73 एक आदमी अनुप्रवाह में नाव चलाके 2 घंटे में 9 km की दूरी तय करता है और शुरुआती बिंदु पर लौटने के लिए 6 घंटे का समय लेता है। धारा की (km/h में) गति क्या है?

Ans ✗ 1. 2.5

✗ 2. 3

✓ 3. 1.5

✗ 4. 2

Question ID : 9895805171
Chosen Option : 3

Q74 0.7 और 2.8 के बीच माध्य आनुपातिक का अनुपात और 2.5 और 3.5 के लिए तीसरा आनुपातिक _____ है:

- Ans
- 1. 7 : 2
 - 2. 2 : 7
 - 3. 7 : 3
 - 4. 3 : 7

Question ID : 9895805162
Chosen Option : 2

Q75 $\frac{0.2 \div 0.2 \text{ of } 0.1 - 0.03 \div 0.6 \text{ of } 0.01}{0.25 \times 0.75 \div 1.25 \text{ of } 0.4 + 0.125}$ का मान इस के बीच स्थित है:

- Ans
- 1. 9.5 और 10.5
 - 2. 8.5 और 9.5
 - 3. 10.5 और 11.5
 - 4. 11.5 और 12.5

Question ID : 9895805155
Chosen Option : 2

Section : English Language

Q1 Select the antonym of the given word.

Attack

- Ans
- 1. Assent
 - 2. Defence
 - 3. Refuse
 - 4. Secure

Question ID : 9895804557
Chosen Option : -

Q2 Select the word which means the same as the group of words given.

The practice of marrying one person at a time.

- Ans
- 1. Bigamy
 - 2. Monogamy
 - 3. Polygamy
 - 4. Monotony

Question ID : 9895804558
Chosen Option : -

Q3

Select the most appropriate option to substitute the underlined segment in the given sentence. If there is no need to substitute it, select No Improvement.

They thought she was arrogant, and she was very shy.

- Ans**
- 1. No improvement
 - 2. as soon as she was
 - 3. so that she was
 - 4. whereas she was

Question ID : 9895804544
Chosen Option : -

Q4 Select the most appropriate option to substitute the underlined segment in the given sentence. If there is no need to substitute it, select No Improvement.

There were not any excuse for not participating in the competition.

- Ans**
- 1. no any excuse
 - 2. no excuses
 - 3. no excuse
 - 4. No improvement

Question ID : 9895804545
Chosen Option : -

Comprehension:

In the following passage some words have been deleted. Fill in the blanks with the help of the alternatives given.

Flood is a common natural disaster. Scientists have often tried to (1) _____ floods. There are a number of reasons that (2) _____ floods, including heavy rain and cloudbursts. Due to these reasons, rivers (3) _____ their banks and cover the surrounding land. Sometimes, dams break and cause disastrous floods that (4) _____ to large-scale destruction. Timely safety (5) _____ should be taken to save human life and property.

SubQuestion No : 5

Q5 Select the most appropriate option that will fill in the blank number 1.

- Ans**
- 1. predict
 - 2. prevent
 - 3. avoid
 - 4. control

Question ID : 9895804549
Chosen Option : -

Comprehension:

In the following passage some words have been deleted. Fill in the blanks with the help of the alternatives given.

Flood is a common natural disaster. Scientists have often tried to (1) _____ floods. There are a number of reasons that (2) _____ floods, including heavy rain and cloudbursts. Due to these reasons, rivers (3) _____ their banks and cover the surrounding land. Sometimes, dams break and cause disastrous floods that (4) _____ to large-scale destruction. Timely safety (5) _____ should be taken to save human life and property.

SubQuestion No : 6

Q6 Select the most appropriate option that will fill in the blank number 2.

- Ans**
- 1. arouse
 - 2. cause
 - 3. happen
 - 4. occur

Question ID : 9895804550
Chosen Option : -

Comprehension:

In the following passage some words have been deleted. Fill in the blanks with the help of the alternatives given.

Flood is a common natural disaster. Scientists have often tried to (1) _____ floods. There are a number of reasons that (2) _____ floods, including heavy rain and cloudbursts. Due to these reasons, rivers (3) _____ their banks and cover the surrounding land. Sometimes, dams break and cause disastrous floods that (4) _____ to large-scale destruction. Timely safety (5) _____ should be taken to save human life and property.

SubQuestion No : 7

Q7 Select the most appropriate option that will fill in the blank number 3.

- Ans**
- 1. overflow
 - 2. wash
 - 3. drown
 - 4. reach

Question ID : 9895804551
Chosen Option : -

Comprehension:

In the following passage some words have been deleted. Fill in the blanks with the help of the alternatives given.

Flood is a common natural disaster. Scientists have often tried to (1) _____ floods. There are a number of reasons that (2) _____ floods, including heavy rain and cloudbursts. Due to these reasons, rivers (3) _____ their banks and cover the surrounding land. Sometimes, dams break and cause disastrous floods that (4) _____ to large-scale destruction. Timely safety (5) _____ should be taken to save human life and property.

SubQuestion No : 8

Q8 Select the most appropriate option that will fill in the blank number 4.

- Ans**
- 1. led
 - 2. leads
 - 3. lead
 - 4. leading

Question ID : 9895804552

Chosen Option : -

Comprehension:

In the following passage some words have been deleted. Fill in the blanks with the help of the alternatives given.

Flood is a common natural disaster. Scientists have often tried to (1) _____ floods. There are a number of reasons that (2) _____ floods, including heavy rain and cloudbursts. Due to these reasons, rivers (3) _____ their banks and cover the surrounding land. Sometimes, dams break and cause disastrous floods that (4) _____ to large-scale destruction. Timely safety (5) _____ should be taken to save human life and property.

SubQuestion No : 9

Q9 Select the most appropriate option that will fill in the blank number 5.

- Ans**
- 1. items
 - 2. measures
 - 3. products
 - 4. causes

Question ID : 9895804553

Chosen Option : -

Q10

Select the most appropriate word to fill in the blank.

My mother is _____ riser.

- Ans**
- 1. an easy
 - 2. a fast
 - 3. an early
 - 4. a quick

Question ID : 9895804563
Chosen Option : -

Q11 Select the synonym of the given word.

GLEE

- Ans**
- 1. Hearty
 - 2. Laughter
 - 3. Happiness
 - 4. Jump

Question ID : 9895804555
Chosen Option : -

Q12 From the given options, identify the segment in the sentence which contains the grammatical error.

The T.V. and the computer has been blamed for reduced reading habits amongst children.

- Ans**
- 1. for reduced
 - 2. amongst children.
 - 3. The T.V. and the computer
 - 4. has been blamed

Question ID : 9895804540
Chosen Option : -

Q13 Select the option that means the same as the given idiom.

To measure swords

- Ans**
- 1. To push an opponent
 - 2. To engage in competition
 - 3. To argue with someone
 - 4. To confess one's mistake

Question ID : 9895804874
Chosen Option : -

Q14

Select the most appropriate option to fill in the blank.

I told him to avoid fighting, but he won't _____.

- Ans**
- 1. doing it
 - 2. do it
 - 3. did it
 - 4. does it

Question ID : 9895804547
Chosen Option : -

Q15 Select the most appropriate word to fill in the blank.

He likes to do stunts with his bike. He is a _____

- Ans**
- 1. busybody
 - 2. daredevil
 - 3. little bug
 - 4. wind bag

Question ID : 9895804562
Chosen Option : -

Q16 Select the most appropriate option to substitute the underlined segment in the given sentence. If there is no need to substitute it, select No improvement.

You need to curb your temper or you might offended someone.

- Ans**
- 1. you might offending
 - 2. No improvement
 - 3. you might offend
 - 4. you might be offend

Question ID : 9895804543
Chosen Option : -

Q17 Select the option that means the same as the given idiom.

Out of order

- Ans**
- 1. In good condition
 - 2. Out of place
 - 3. Out of nowhere
 - 4. Not in working condition

Question ID : 9895804561
Chosen Option : -

Q18 Select the synonym of the given word.

IDENTICAL

- Ans**
- 1. Varied
 - 2. Perfect
 - 3. Corresponding
 - 4. Same

Question ID : 9895804554
Chosen Option : -

Q19 From the given options, identify the segment in the sentence which contains the grammatical error.

He not only got a scholarship and also a good job.

- Ans**
- 1. a good job.
 - 2. not only
 - 3. got a scholarship
 - 4. and also

Question ID : 9895804542
Chosen Option : -

Q20 Select the antonym of the given word.

ABOVE

- Ans**
- 1. Across
 - 2. Below
 - 3. Down
 - 4. Less

Question ID : 9895804556
Chosen Option : -

Q21 Select the correctly spelt word.

- Ans**
- 1. Fulfil
 - 2. Fullfil
 - 3. Foolfil
 - 4. Fullfill

Question ID : 9895804565
Chosen Option : -

Q22 From the given options, identify the segment in the sentence which contains the grammatical error.

I am fastly excited and really looking forward to the trip.

- Ans**
- 1. I am fastly

- 2. looking forward
- 3. to the trip
- 4. and really

Question ID : 9895804541
Chosen Option : -

Q23 Select the most appropriate option to fill in the blank.

She did not reply _____ my letter.

- Ans
- 1. for
 - 2. against
 - 3. to
 - 4. with

Question ID : 9895804546
Chosen Option : -

Q24 Select the correctly spelt word.

- Ans
- 1. Rememberance
 - 2. Remembranse
 - 3. Remembrance
 - 4. Remembarence

Question ID : 9895804564
Chosen Option : -

Q25 Select the word which means the same as the group of words given.

That which can be seen through

- Ans
- 1. Foggy
 - 2. Transparent
 - 3. Vague
 - 4. Opaque

Question ID : 9895804559
Chosen Option : -

Section : Hindi Language

QJ दिए गए वाक्य में रेखांकित खंड को प्रतिस्थापित करने के लिए उपयुक्त विकल्प का चयन करें।

साँप को देखकर छोटा बच्चा उसको डर गया।

- Ans
- 1. उससे डर गया।

2. उसमें डर गया।
 3. उस पर डर गया।
 4. उसकी डर गया।

Question ID : 9895804881
Chosen Option : 1

Q2 सही वर्तनी वाले शब्द का चयन करें।

- Ans 1. ज्येश्ठ
 2. ज्येष्ट
 3. ज्येष्ठ
 4. जयेष्ठ

Question ID : 9895804901
Chosen Option : 3

Q3 दिए गए वाक्य में रेखांकित खंड को प्रतिस्थापित करने के लिए उपयुक्त विकल्प का चयन करें।

मनुष्य को पुण्य कर्म करता चाहिए।

- Ans 1. पुण्य कर्म करनी चाहिए।
 2. पुण्य कर्म करते चाहिए।
 3. पुण्य कर्मों करने चाहिए।
 4. पुण्य कर्म करना चाहिए।

Question ID : 9895804879
Chosen Option : 4

Q4 दिए गए शब्द के पर्यायवाची शब्द का चयन करें।

शिक्षक

- Ans 1. गुरु
 2. विद्यार्थी
 3. दिवाकर
 4. विभा

Question ID : 9895804895
Chosen Option : 1

Q5 रिक्त स्थान को भरने के लिए उपयुक्त शब्द का चयन करें।

राम ने साँप को लाठी _____ मारा।

- Ans
- 1. में
 - 2. ने
 - 3. पर
 - 4. से

Question ID : 9895804883
Chosen Option : 4

Q6 दिये गये वाक्यांश के लिए एक शब्द चुनिए।

जो सबको प्रिय हो

- Ans
- 1. सर्वप्रिय
 - 2. रमणीय
 - 3. शोभनीय
 - 4. सुन्दर

Question ID : 9895804898
Chosen Option : 1

Q7 रिक्त स्थान को भरने के लिए उपयुक्त शब्द का चयन करें।

मेरे माता-पिता की ओर से _____ ढेर सारा प्यार।

- Ans
- 1. किसी
 - 2. सभी
 - 3. तुम्हें
 - 4. मुझे

Question ID : 9895804884
Chosen Option : 3

Q8 निम्नलिखित में से उस विकल्प का चयन करें जो 'कलेजे पर पत्थर रखना' मुहाबरे का अर्थ व्यक्त करता है।

- Ans
- 1. भारी पत्थर कलेजे पर रखना
 - 2. जी कड़ा करना
 - 3. कलेजे को पत्थर पर रखना
 - 4. दिल बड़ा करना

Question ID : 9895804897
Chosen Option : 2

Q9

दिए गए वाक्य का वह भाग ज्ञात करें जिसमें कोई त्रुटि है।

कोई गुंडा भरे बाज़ार में किसी को हत्या करके चला गया।

- Ans**
- 1. भरे बाजार में
 - 2. कोई गुंडा
 - 3. चला गया।
 - 4. किसी को हत्या करके

Question ID : 9895804876
Chosen Option : 4

Q10 दिए गए शब्द का विलोम चुनें।

उष्ण

- Ans**
- 1. उष्मा
 - 2. उपमा
 - 3. शीत
 - 4. लहर

Question ID : 9895804892
Chosen Option : 3

Q11 रिक्त स्थान को भरने के लिए उपयुक्त शब्द का चयन करें।

_____ मैं बाजार गया तो सामान अवश्य लाऊँगा।

- Ans**
- 1. यदि
 - 2. जिससे
 - 3. इसलिए
 - 4. यदापि

Question ID : 9895804885
Chosen Option : 1

Comprehension:

दिए गए अनुच्छेद में कुछ शब्द हटा दिए गए हैं। दिए गए विकल्पों की सहायता से रिक्त स्थान भरें। प्रत्येक संख्या के लिए उपयुक्त विकल्प का चयन करें।

एक अत्याचारी शासक एक चीते से अधिक _____ (1)

होता है। अत्याचारी शासन में रहने की अपेक्षा _____

(2) है कि किसी पहाड़ी अथवा वन में रह लिया जाए।

जनता को चाहिए कि वह अत्याचारी शासन का समुचित

_____ (3) करे और सत्ताधारी को अपना _____ (4)

करने के लिए विवश करने का उपाय करे। अत्याचारी

शासन को भय के कारण सहन करने वाला समाज किसी

प्रकार की _____ (5) नहीं कर पाता।

SubQuestion No : 12

Q12 गद्यांश में संकेतित रिक्त स्थान (1) के लिए उपयुक्त शब्द होगा -

- Ans**
- 1. मस्त
 - 2. कमाल
 - 3. भयंकर
 - 4. रोचक

Question ID : 9895804887
Chosen Option : 3

Comprehension:

दिए गए अनुच्छेद में कुछ शब्द हटा दिए गए हैं। दिए गए विकल्पों की सहायता से रिक्त स्थान भरें। प्रत्येक संख्या के लिए उपयुक्त विकल्प का चयन करें।

एक अत्याचारी शासक एक चीते से अधिक _____ (1)

होता है। अत्याचारी शासन में रहने की अपेक्षा _____

(2) है कि किसी पहाड़ी अथवा वन में रह लिया जाए।

जनता को चाहिए कि वह अत्याचारी शासन का समुचित

_____ (3) करे और सत्ताधारी को अपना _____ (4)

करने के लिए विवश करने का उपाय करे। अत्याचारी

शासन को भय के कारण सहन करने वाला समाज किसी

प्रकार की _____ (5) नहीं कर पाता।

SubQuestion No : 13

Q13 गद्यांश में संकेतित रिक्त स्थान (2) के लिए उपयुक्त शब्द होगा -

- Ans**
- 1. किस्सा
 - 2. खोना
 - 3. नाटक
 - 4. अच्छा

Question ID : 9895804888
Chosen Option : 4

Comprehension:

दिए गए अनुच्छेद में कुछ शब्द हटा दिए गए हैं। दिए गए विकल्पों की सहायता से रिक्त स्थान भरें। प्रत्येक संख्या के लिए उपयुक्त विकल्प का चयन करें।

एक अत्याचारी शासक एक चीते से अधिक _____ (1)

होता है। अत्याचारी शासन में रहने की अपेक्षा _____

(2) है कि किसी पहाड़ी अथवा वन में रह लिया जाए।

जनता को चाहिए कि वह अत्याचारी शासन का समुचित

_____ (3) करे और सत्ताधारी को अपना _____ (4)

करने के लिए विवश करने का उपाय करे। अत्याचारी

शासन को भय के कारण सहन करने वाला समाज किसी

प्रकार की _____ (5) नहीं कर पाता।

SubQuestion No : 14

Q14 गद्यांश में संकेतित रिक्त स्थान (3) के लिए उपयुक्त शब्द होगा -

Ans ✓ 1. विरोध

✗ 2. उमंग

✗ 3. उत्साह

✗ 4. जोश

Question ID : 9895804889

Chosen Option : 1

Comprehension

दिए गए अनुच्छेद में कुछ शब्द हटा दिए गए हैं। दिए गए विकल्पों की सहायता से रिक्त स्थान भरें। प्रत्येक संख्या के लिए उपयुक्त विकल्प का चयन करें।

एक अत्याचारी शासक एक चीते से अधिक _____ (1)

होता है। अत्याचारी शासन में रहने की अपेक्षा _____

(2) है कि किसी पहाड़ी अथवा वन में रह लिया जाए।

जनता को चाहिए कि वह अत्याचारी शासन का समुचित

_____ (3) करे और सत्ताधारी को अपना _____ (4)

करने के लिए विवश करने का उपाय करे। अत्याचारी

शासन को भय के कारण सहन करने वाला समाज किसी

प्रकार की _____ (5) नहीं कर पाता।

SubQuestion No : 15

Q15 गद्यांश में संकेतित रिक्त स्थान (4) के लिए उपयुक्त शब्द होगा -

- Ans**
- 1. दुर्बल
 - 2. सुधार
 - 3. मजदूर
 - 4. मजबूत

Question ID : 9895804890

Chosen Option : 2

Comprehension:

दिए गए अनुच्छेद में कुछ शब्द हटा दिए गए हैं। दिए गए विकल्पों की सहायता से रिक्त स्थान भरें। प्रत्येक संख्या के लिए उपयुक्त विकल्प का चयन करें।

एक अत्याचारी शासक एक चीते से अधिक _____ (1)

होता है। अत्याचारी शासन में रहने की अपेक्षा _____

(2) है कि किसी पहाड़ी अथवा वन में रह लिया जाए।

जनता को चाहिए कि वह अत्याचारी शासन का समुचित

_____ (3) करे और सत्ताधारी को अपना _____ (4)

करने के लिए विवश करने का उपाय करे। अत्याचारी

शासन को भय के कारण सहन करने वाला समाज किसी

प्रकार की _____ (5) नहीं कर पाता।

SubQuestion No : 16

Q16 गद्यांश में संकेतित रिक्त स्थान (5) के लिए उपयुक्त शब्द होगा -

- Ans**
- 1. अवनति
 - 2. विवाह
 - 3. उन्नति
 - 4. अज्ञान

Question ID : 9895804891

Chosen Option : 3

Q17 निम्नलिखित में से उस विकल्प का चयन करें जो 'ओखली में सिर देना' मुहावरे का अर्थ व्यक्त करता है।

- Ans**
- 1. ओखली के समान सर होना
 - 2. ओखली में सिर देकर उसे कूटना
 - 3. ओखली को सिर पर रखना
 - 4. जान बूझकर मुसीबत में पड़ना

Question ID : 9895804896

Chosen Option : 4

Q18 रिक्त स्थान को भरने के लिए उपयुक्त शब्द का चयन करें।

वह सदैव _____ से बड़ों का आदर करता है।

- Ans**
- 1. पराये

2. तुम्हारे

3. अपने

4. हमारे

Question ID : 9895804882
Chosen Option : 3

Q19 दिए गए वाक्य का वह भाग ज्ञात करें जिसमें कोई त्रुटि है।

महानगरों की जीवन शैली तृष्णा का भरी है और यहाँ रहने वाला लाखों कमाकर भी बेचैन है।

Ans 1. महानगरों की जीवन शैली

2. तृष्णा का भरी है।

3. और यहाँ रहने वाला

4. लाखों कमाकर भी बेचैन है।

Question ID : 9895804877
Chosen Option : 2

Q20 दिए गए शब्द का विलोम चुनें।

अपव्यय

Ans 1. व्यर्थव्यय

2. अतिव्यय

3. खर्चीला

4. मितव्यय

Question ID : 9895804893
Chosen Option : 4

Q21 दिए गए वाक्य का वह भाग ज्ञात करें जिसमें कोई त्रुटि है।

जो लोग विवेकी हैं वे मानवजाति को विनाश की ओर बढ़ते देखकर विचलित होता हैं।

Ans 1. विचलित होता हैं।

2. विनाश की ओर बढ़ते देखकर

3. मानवजाति को

4. जो लोग विवेकी हैं

Question ID : 9895804878
Chosen Option : 1

Q22

दिए गए शब्द के पर्यायवाची शब्द का चयन करें।

गोधूलि

- Ans
- 1. दिन
 - 2. संध्या
 - 3. सुबह
 - 4. रात

Question ID : 9895804894
Chosen Option : 2

Q23 सही वर्तनी वाले शब्द का चयन करें।

- Ans
- 1. दुरभल
 - 2. दुर्लभ
 - 3. दूर्लभ
 - 4. दुरलभ

Question ID : 9895804900
Chosen Option : 2

Q24 दिये गये वाक्यांश के लिए एक शब्द चुनिए।

जो दूर की सोचता है

- Ans
- 1. दूरदर्शी
 - 2. द्वादशी
 - 3. चतुर्दशी
 - 4. एकादशी

Question ID : 9895804899
Chosen Option : 1

Q25 दिए गए वाक्य में रेखांकित खंड को प्रतिस्थापित करने के लिए उपयुक्त विकल्प का चयन करें।

आज की सभा में फूलों के गुलदस्ता अतिथि को भेंट किया गया।

- Ans
- 1. फूलों में गुलदस्ता
 - 2. फूलों से गुलदस्ता
 - 3. फूलों का गुलदस्ता
 - 4. फूलों की गुलदस्ता

Question ID : 9895804880
Chosen Option : 3

KD Job Updates

Constable (GD) in CAPFs, NIA, SSF and Rifleman (GD) in Assam Rifles Examination, 2018

Roll No. :	
Registration No.	
Name :	
Exam Venue :	
Exam Time :	12:30 PM - 2:00 PM
Exam Date :	18/02/2019

Section : General Section

Q.1 उस विकल्प का चयन करें जो तीसरी संख्या से उसी प्रकार से संबंधित है जिस प्रकार दूसरी संख्या पहली संख्या से संबंधित है।

36 : 324 :: 11 : ?

- Ans
1. 259
2. 221
3. 121
4. 22

Question ID : 9895803815
Chosen Option : 3

Q.2 नीचे दिए गए कथनों के बाद दो निष्कर्ष I और II दिए गए हैं। यह मानते हुए कि कथनों में दी गई जानकारी सत्य है, भले ही वह सर्वज्ञात तथ्यों से भिन्न प्रतीत होती हो और यह निर्णय करें कि कौन सा / से निष्कर्ष तार्किक और निश्चित रूप से कथन में दी गई जानकारी का अनुसरण करता है / करते हैं।

- कथन:
- 1) कुछ खाद अमोनिया हैं।
2) कुछ अमोनिया पोटाश हैं।

निष्कर्ष:

- I. कुछ अमोनिया खाद हैं।
II. कुछ पोटाश अमोनिया हैं।

- Ans
1. केवल निष्कर्ष I अनुसरण करता है।
2. केवल निष्कर्ष II अनुसरण करता है।
3. न तो निष्कर्ष I और न ही निष्कर्ष II अनुसरण करता है।
4. दोनों ही निष्कर्ष अनुसरण करते हैं।

Question ID : 9895803812
Chosen Option : 2

Q.3 पैटर्न के साथ एक वर्गाकार पारदर्शी कागज पत्रक दिया गया है। पारदर्शी कागज पत्रक को बिंदुकित रेखा पर मोड़े जाने पर पैटर्न कैसा दिखाई देगा?



x

Ans

- 1.
- 2.

✓ 3.



✗ 4.



Question ID : 9895803823
Chosen Option : 3

Q.4 सात मित्र O, P, Q, R, S, T और U एक पंक्ति में बैठे फिल्म देख रहे हैं। P एक अंतिम छोर पर बैठा हुआ है। Q, S के ठीक बाएँ ओर बैठा है। P, T के दाएँ से दूसरे स्थान पर बैठा है। U किसी भी अंतिम छोर पर नहीं बैठा है। O, R और T के बीच में बैठा है।

बिल्कुल बाएँ छोर पर कौन बैठा है?

- Ans
- ✗ 1. R
 - ✓ 2. Q
 - ✗ 3. T
 - ✗ 4. P

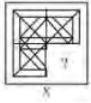
Question ID : 9895803808
Chosen Option : 1

Q.5 एक निश्चित कूट भाषा में, ABOVE को ABEOV के रूप में लिखा जाता है। उसी कूट भाषा में QUESTION को कैसे लिखा जाएगा?

- Ans
- ✗ 1. EINOQTSU
 - ✓ 2. EINOQSTU
 - ✗ 3. USINVSIN
 - ✗ 4. EINQOSTU

Question ID : 9895803806
Chosen Option : 4

Q.6 दिए गए चार विकल्पों में से उस आकृति को चुनें, जिस आकृति X के रिक्त स्थान में (बिना घुमाए) रखने पर पैटर्न पूरा हो जाएगा।



- Ans
- ✗ 1.
 - ✗ 2.
 - ✓ 3.
 - ✗ 4.

Question ID : 9895803820
Chosen Option : 3

Q.7 निम्नलिखित समीकरण को सही करने के लिए विकल्पों में दिए गए किन दो चिहनों को परस्पर बदला जाना चाहिए?
 $25 + 25 \times 25 - 25 + 25 = -599$

Ans

1. + और ×
2. × और ÷
3. - और ÷
4. - और ×

Question ID : 9895803818
Chosen Option : 2

Q.8 उस विकल्प का चयन करें जो दी गई श्रृंखला में प्रश्न चिह्न (?) के स्थान पर सही रूप में आएगा।
QFM, OHL, MJK, ?

- Ans 1. KJL
2. JKL
3. KLJ
4. LKJ

Question ID : 9895803800
Chosen Option : 3

Q.9 दिए गए विकल्पों में से असंगत संख्या का चयन करें।

- Ans 1. 97
2. 26
3. 65
4. 52

Question ID : 9895803816
Chosen Option : 1

Q.1 आठ मित्र A, B, C, D, E, F, G और H दोपहर के भोजन के लिए एक वृत्ताकार मेज के चारों ओर एक-दूसरे के आमने-सामने बैठे हैं। A, D के सामने है और B के दाएँ ओर से तीसरा है। G, A और F के बीच में है। H, A के दाएँ ओर है। E, C और D के बीच में है।

B के सामने कौन बैठा है?

- Ans 1. F
2. H
3. C
4. E

Question ID : 9895803809
Chosen Option : 2

Q.1₁ दिए गए विकल्पों में से असंगत का चयन करें।

- Ans 1. कान
2. गुर्दा
3. नाक
4. आंख

Question ID : 9895803802
Chosen Option : 2

Q.1
2 उस विकल्प का चयन करें जो दी गई श्रृंखला में प्रश्न चिह्न (?) के स्थान पर आएगा।
102, 98, 82, 46, ?

- Ans
- 1. 18
 - 2. 20
 - 3. -20
 - 4. -18

Question ID : 9895803813
Chosen Option : 4

Q.1
3 उस विकल्प का चयन करें जो तीसरे पद से उसी प्रकार से संबंधित है जिस प्रकार दूसरा पद पहले पद से संबंधित है।
LEVEL : MFVDK :: FENCE:?

- Ans
- 1. FGNBD
 - 2. GFNBD
 - 3. FGNDB
 - 4. GFNDB

Question ID : 9895803805
Chosen Option : 2

Q.1
4 उस विकल्प का चयन करें जो दी गई श्रृंखला में प्रश्न चिह्न (?) के स्थान पर आएगा।
5, 17, 34, 61, ?

- Ans
- 1. 105
 - 2. 115
 - 3. 103
 - 4. 125

Question ID : 9895803814
Chosen Option : 3

Q.1
5 एक निश्चित कूट भाषा में, DIG को 20 के रूप में लिखा जाता है। उसी कूट भाषा में FEED को कैसे लिखा जाएगा?

- Ans
- 1. 20
 - 2. 80
 - 3. 90
 - 4. 60

Question ID : 9895803807
Chosen Option : 1

Q.1
6 दिए गए विकल्पों में से असंगत का चयन करें।

- Ans
- 1. FIL
 - 2. KJL
 - 3. GIK
 - 4. DKL

Question ID : 9895803801
Chosen Option : 4

Q.1

- 7 नीचे दिए गए कथनों के बाद दो निष्कर्ष I और II दिए गए हैं। यह मानते हुए कि कथनों में दी गई जानकारी सत्य है, भले ही वह सर्वज्ञात तथ्यों से भिन्न प्रतीत होती हो और यह निर्णय करें कि कौन सा / से निष्कर्ष तार्किक और निश्चित रूप से कथन में दी गई जानकारी का अनुसरण करता है / करते हैं।

कथन:

- 1) सभी भेक मेंढक हैं।
- 2) सभी मेंढक सांप हैं।

निष्कर्ष:

- I. कुछ सांप भेक हैं।
- II. कुछ मेंढक भेक हैं।

Ans

1. केवल निष्कर्ष II अनुसरण करता है।
2. केवल निष्कर्ष I अनुसरण करता है।
3. दोनों ही निष्कर्ष अनुसरण करते हैं।
4. या तो निष्कर्ष I या निष्कर्ष II अनुसरण करता है।

Question ID : 9895803811

Chosen Option : 3

- Q.1 उस विकल्प का चयन करें जो दिए गए चित्र की दर्पण छवि से सर्वाधिक मेल खाता है।



Ans

- 1.
- 2.
- 3.
- 4.

Question ID : 9895803822

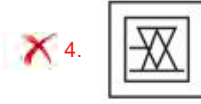
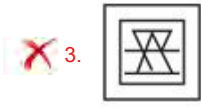
Chosen Option : 4

- Q.1 विकल्पों में से उस आकृति का चयन करें जिसमें 'X' से चिह्नित आकृति समाहित है। (घुमाने की अनुमति नहीं है)



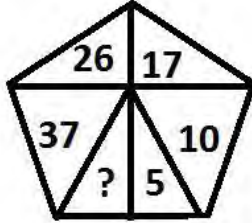
Ans

- 1.
- 2.



Question ID : 9895803821
Chosen Option : 1

Q.2 उस विकल्प का चयन करें जो दिए गए पैटर्न में प्रश्न चिह्न (?) के स्थान पर आएगा।



- Ans
- 1. 49
 - 2. 13
 - 3. 3
 - 4. 50

Question ID : 9895803817
Chosen Option : 4

Q.2 उस विकल्प का चयन करें जो तीसरे पद से उसी प्रकार से संबंधित है जिस प्रकार दूसरा पद पहले पद से संबंधित है।
1 प्रसिद्ध : विख्यात :: प्रतिबंध : ?

- Ans
- 1. उपयोग
 - 2. अनुमति देना
 - 3. निषेध
 - 4. पैकेट

Question ID : 9895803804
Chosen Option : 3

Q.2 उस विकल्प का चयन करें जो तीसरे पद से उसी प्रकार से संबंधित है जिस प्रकार दूसरा पद पहले पद से संबंधित है।
2 मत्स्यविज्ञान : मछलियाँ :: हेमटालजी : ?

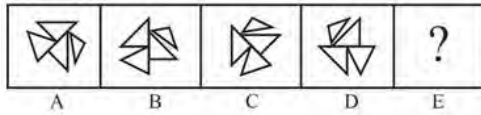
- Ans
- 1. रक्त (ब्लड)
 - 2. ऊतक
 - 3. हड्डी
 - 4. स्नायु

Question ID : 9895803803
Chosen Option : 2

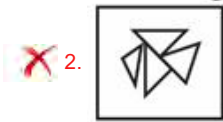
Q.2
3

विकल्पों में से उस आकृति का चयन करें जो दी गई श्रृंखला में अगले स्थान पर आएगी।

Problem Fig.



Ans



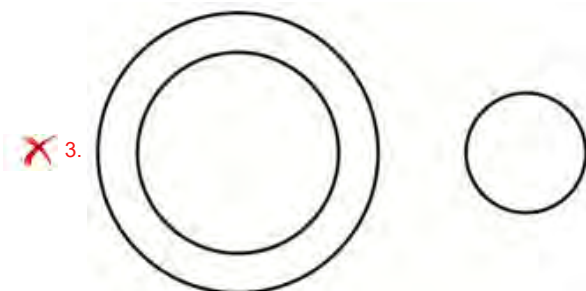
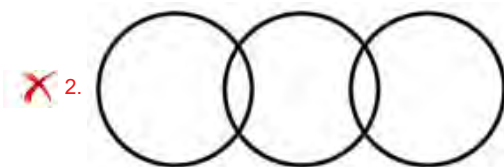
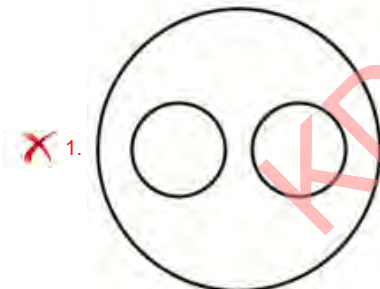
Question ID : 9895803819

Chosen Option : 1

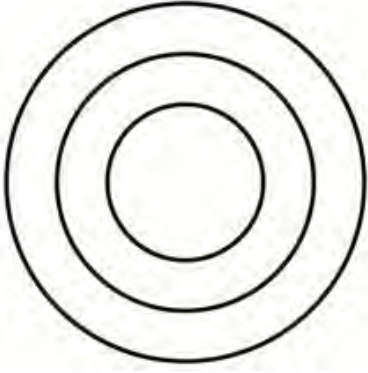
Q.2 Select the Venn diagram that best represents the given set of classes.

Paragraph, Word, Sentence

Ans



✓ 4.



Question ID : 9895803824

Chosen Option : 4

Q.2 J, K, L, M, N और O छह शिक्षक हैं। उनमें से प्रत्येक हिंदी, अंग्रेजी, गणित, विज्ञान, सामाजिक विज्ञान और कला में से एक अलग विषय पढ़ाता है, जरूरी नहीं कि उसी क्रम में हो। उनमें से प्रत्येक सोमवार से शनिवार तक केवल एक दिन ही पढ़ाता है, जरूरी नहीं कि उसी क्रम में हो। J बुधवार को विज्ञान पढ़ाता है। O, J के बाद दूसरे दिन गणित पढ़ाता है। K सप्ताह के पहले दिन पढ़ाता है, लेकिन न तो हिंदी पढ़ाता है और न ही अंग्रेजी। M, N से पहले अंग्रेजी पढ़ाता है और L, J से पहले कला पढ़ाता है।

शनिवार को कौन सा विषय पढ़ाया जाता है?

Ans

- ✓ 1. हिंदी
- ✗ 2. विज्ञान
- ✗ 3. अंग्रेजी
- ✗ 4. सामाजिक विज्ञान

Question ID : 9895803810

Chosen Option : 1

Q.2 6 भक्ति संत, आण्डाल, निम्नलिखित धार्मिक संप्रदायों में से किससे संबंधित थे?

Ans

- ✗ 1. शक्ति
- ✗ 2. बौद्ध
- ✗ 3. शैव
- ✓ 4. वैष्णव

Question ID : 9895805361

Chosen Option : 4

Q.2 7 प्रजिबों (प्रोटोस्टा जीवों) द्वारा संचलन के लिए निम्न में से किस विशेषता का उपयोग किया जाता है?

Ans

- ✗ 1. ऊर्ध्वहन्वस्थि (मेक्षीलिया)
- ✓ 2. कशाभिका (फ्लेगेल्ला)
- ✗ 3. काल्पनिक जिव (चिमेरा)
- ✗ 4. क्षणभंगुरता (इफीमेरा)

Question ID : 9895805368

Chosen Option : 4

Q.2 8 'गांधार कला शैली (स्कूल ऑफ आर्ट)' _____ राजवंश के तहत विकसित हुई।

Ans

- ✓ 1. कुषाण

- 2. मौर्य
- 3. चोल
- 4. नंद

Question ID : 9895805359
Chosen Option : 3

Q.2
9 पहले आधुनिक ओलंपिक खेल कब आयोजित किए गए थे?

- Ans
- 1. 1896
 - 2. 1943
 - 3. 1921
 - 4. 1935

Question ID : 9895805380
Chosen Option : 2

Q.3
0 निम्नलिखित में से क्या भारत के संविधान की विशेषता नहीं है?

- Ans
- 1. मूलभूत अधिकार
 - 2. सत्ता का विभाजन
 - 3. एकात्मक प्रणाली
 - 4. संघीयता

Question ID : 9895805370
Chosen Option : 3

Q.3
1 निम्नलिखित में से कौन सी नदी अरब सागर में जाके मिलती है?

- Ans
- 1. कावेरी
 - 2. गोदावरी
 - 3. कृष्णा
 - 4. नर्मदा

Question ID : 9895805363
Chosen Option : 2

Q.3
2 भारत की जीडीपी की गणना के लिए कौन सी संस्था जिम्मेदार है?

- Ans
- 1. वित्त मंत्रालय
 - 2. मुख्य आर्थिक सलाहकार
 - 3. भारतीय रिजर्व बैंक
 - 4. केंद्रीय सांख्यिकी कार्यालय

Question ID : 9895805375
Chosen Option : 4

Q.3
3 2011 की जनगणना के अनुसार, भारत में निम्नलिखित में से किस राज्य में जनसंख्या घनत्व सबसे कम है?

- Ans 1. अरुणाचल प्रदेश
2. हिमाचल प्रदेश
3. छत्तीसगढ़
4. सिक्किम

Question ID : 9895805364
Chosen Option : 1

Q.3
4 बेडाक्विलाइन दवा को निम्नलिखित में से किस बीमारी के इलाज के लिए विकसित किया गया था?

- Ans 1. तीव्र अधिश्वेत रक्तता (एक्यूट मायलोईड ल्यूकेमिया)
2. एमडीआर-टीबी
3. अस्थिसंधिसोथ (ऑस्टियोआर्थराइटिस)
4. हैज़ा

Question ID : 9895805376
Chosen Option : 3

Q.3
5 "स्वच्छता स्वतंत्रता से अधिक महत्वपूर्ण है" - यह किसने कहा था?

- Ans 1. जवाहरलाल नेहरू
2. सी राजगोपालाचारी
3. महात्मा गांधी
4. सुभाष चंद्र बोस

Question ID : 9895805369
Chosen Option : 3

Q.3
6 एक यूकेरियोटिक कोशिका में एक नाभिक सहित झिल्ली (मेम्ब्रेन) से बंधे अंग होते हैं, जो कोशिकीय प्रक्रियाओं को _____ में कार्य करने में सहायक हैं।

- Ans 1. अलगाव
2. विभाजन
3. समावेश
4. द्विविभाजन

Question ID : 9895805367
Chosen Option : 2

Q.3
7 इयुरंड कप किस खेल से संबंधित है?

- Ans 1. हॉकी
2. क्रिकेट
3. फुटबॉल
4. टेनिस

Question ID : 9895805379

Chosen Option : 3

Q.3
8 भारत सरकार द्वारा योजना आयोग किस वर्ष में स्थापित किया गया था?

- Ans
- 1. 1950
 - 2. 1951
 - 3. 1949
 - 4. 1948

Question ID : 9895805371

Chosen Option : 2

Q.3
9 चावल की एक अनोखी किस्म, पोककल्ली, जो लवणता को बनाए रख सकता है, वह स्थानिक रूप से भारत के किस राज्य से है?

- Ans
- 1. गोवा
 - 2. आंध्र प्रदेश
 - 3. केरल
 - 4. तेलंगाना

Question ID : 9895805383

Chosen Option : 2

Q.4
0 राग 'मिया मल्हार' का सर्जन किसने किया था?

- Ans
- 1. पंडित जसराज
 - 2. अमीर खुसरो
 - 3. तानसेन
 - 4. मीरा बाई

Question ID : 9895805382

Chosen Option : 1

Q.4
1 जब सरकार का कुल राजस्व, उधार को छोड़कर, नियोजित व्यय से कम है, तो इसे क्या कहा जाता है?

- Ans
- 1. घाटा वित्तीयन
 - 2. राजस्व घाटा
 - 3. राजकोषीय घाटा
 - 4. अंदाजपत्र न्यूनता

Question ID : 9895805373

Chosen Option : 2

Q.4
2 निर्वाचक (कॉन्स्टीट्यूअंट) भा पहली बार _____ में मिली थी।

- Ans
- 1. 1947
 - 2. 1946
 - 3. 1945
 - 4. 1948

Question ID : 9895805372
Chosen Option : 4

Q.4 जब ब्याज या मूलधन _____ अवधि के लिए अतिदेय (ओवरड्यू) हो जाता है तो ऋण (लोन) गैर-निष्पादित
3 परिसंपत्ति (एनपीए) बन जाता है।

- Ans
- 1. 180 दिन
 - 2. 365 दिन
 - 3. 90 दिन
 - 4. 5 वर्ष

Question ID : 9895805374
Chosen Option : 2

Q.4 जब आप 1 gm ताम्बा (कॉपर) पाउडर वाले चाइना डिश को गर्म करते हैं, तो पाउडर की सतह पर एक काला पदार्थ
4 बनता है, इसका कारण क्या है?

- Ans
- 1. समुद्र जल से नमक को दूर करना (डीसेलिनीजेशन)
 - 2. उपचयन (ऑक्सीकरण)
 - 3. स्वचालितिकरण (ऑटोमाइजेशन)
 - 4. कार्बनीकरण (जलकर कोयला हो जाना)

Question ID : 9895805365
Chosen Option : 3

Q.4 भारत में सर्वोच्च शांति काल वीरता पुरस्कार कौन सा है?
5

- Ans
- 1. परमवीर चक्र
 - 2. अशोक चक्र
 - 3. कीर्ति चक्र
 - 4. महावीर चक्र

Question ID : 9895805377
Chosen Option : 3

Q.4 'भारत एक खोज - (द डिस्कवरी ऑफ इंडिया)' पुस्तक के लेखक कौन हैं?
6

- Ans
- 1. अटल बिहारी वाजपेयी
 - 2. महात्मा गांधी
 - 3. इंदिरा गांधी
 - 4. जवाहरलाल नेहरू

Question ID : 9895805378
Chosen Option : 4

Q.4 हिमालय _____ पहाड़ों का एक उदाहरण है।
7

- Ans
- 1. ज्वालामुखी
 - 2. पठार

3. परत

4. खंड

Question ID : 9895805362

Chosen Option : 2

Q.4 ओज़ोन रिक्तीकरण (डीप्लेशन) किस के पास सबसे ज्यादा होता है?

Ans 1. महासागर

2. ध्रुवो

3. कटिबंधों

4. भूमध्यरेखा

Question ID : 9895805366

Chosen Option : 1

Q.4 कांगड़ा चित्रकला शैली (स्कूल ऑफ पेंटिंग) के संदर्भ में, निम्नलिखित में से कौन सा कथन सही है?

Ans 1.

उसमें गहरे लाल और काले रंग के साथ सशक्त रंगों का उपयोग होता है

2. इसका विकास समुद्रगुप्त के शासनकाल के दौरान हुआ था

3. यह वैष्णव परंपराओं से प्रेरित हुआ था

4. इसका विषय प्रकृति में शुष्क है

Question ID : 9895805360

Chosen Option : 2

Q.5 "सत्रीया" एक नृत्य शैली है जिसकी उत्पत्ति भारत के _____ राज्य में हुई।

Ans 1. असम

2. आंध्र प्रदेश

3. तमिलनाडु

4. कर्नाटक

Question ID : 9895805381

Chosen Option : 1

Q.5 P अकेला एक कार्य को 16 दिन में पूरा कर सकता है तथा Q अकेला समान कार्य को 20 दिन में पूरा कर सकता है।

1 P तथा Q मिलकर कार्य आरंभ करते हैं परंतु Q कार्य समाप्त होने से 7 दिन पहले कार्य छोड़ देता है। कुल कार्य कितने दिन में पूरा हो जाएगा।

Ans 1. 9 दिन

2. 14 दिन

3. 18 दिन

4. 12 दिन

Question ID : 9895805681

Chosen Option : 4

Q.5
2 $28 \div (11 - 4) + 384 \div (15 + 16 \div 4 + 4)$ का मान क्या है?

- Ans
1. $\frac{512}{23}$
2. $\frac{524}{23}$
3. $\frac{472}{23}$
4. $\frac{476}{23}$

Question ID : 9895805667
Chosen Option : 4

Q.5
3 यदि विजय 17.5 मी./से. की गति से यात्रा कर रहा है, तो 26 घंटे में विजय कितनी दूरी तय करेगा?

- Ans
1. 1562 कि.मी.
2. 1638 कि.मी.
3. 1474 कि.मी.
4. 1572 कि.मी.

Question ID : 9895805682
Chosen Option : 2

Q.5
4 तालिका में 4 छात्रों के 5 विषयों के प्राप्तांक दिए हैं। प्रत्येक विषय के कुल अंक 100 हैं।

	Math	English	Hindi	Social Science	Science
S1	98	60	85	75	92
S2	97	65	80	80	90
S3	95	70	85	70	95
S4	96	62	70	80	90

छात्र S1 और S4 के औसत प्राप्तांकों का अंतर क्या है?

- Ans
1. 3.4
2. 1.4
3. 2.4
4. 2

Question ID : 9895805689
Chosen Option : 3

Q.5
5

नीचे दी गई तालिका विभिन्न कॉलेजों के विभिन्न पाठ्यक्रमों में दाखिला लेने वाले छात्रों की संख्या दर्शाती है।

Colleges	Courses			
	B1	B2	B3	B4
C1	65	56	65	103
C2	68	58	71	112
C3	72	54	88	125
C4	76	52	75	120
C5	69	60	79	126

प्रति कॉलेज कोर्स B2 में दाखिला लेने वाले छात्रों की औसत संख्या

क्या है?

- Ans
1. 58
2. 56
3. 60
4. 53

Question ID : 9895805687

Chosen Option : 2

Q.5 राजू ने ₹ 15 प्रति ग्लास की दर से ग्लास खरीदे तथा ₹ 12 प्रति ग्लास की दर से उन्हें बेच दिया। 42 ग्लास बेचने पर हानि प्रतिशत क्या होगी?

- Ans
1. 14.28%
2. 20%
3. 33.33%
4. 25%

Question ID : 9895805673

Chosen Option : 2

Q.5 यदि एक संख्या का 40%, उस संख्या के एक चौथाई से 105 अधिक है, तो संख्या तथा संख्या के 35% में कितना अंतर होगा?

- Ans
1. 495
2. 315
3. 455
4. 375

Question ID : 9895805672

Chosen Option : 3

Q.5 14 अवलोकन 10, 11, 11, 12, 13, 14, 12, 13, 10, 12, 12,

14, 14 और 15 हैं। दिए गए अवलोकनों का माध्यक क्या है?

- Ans
1. 14
2. 12
3. 10
4. 13

Question ID : 9895805671
Chosen Option : 1

Q.5 दो संख्याओं के महत्तम समापवर्तक तथा लघुत्तम समापवर्त्य का गुणनफल 216 है। यदि एक संख्या 12 है, तो इन दो संख्याओं का अनुपात क्या होगा?

- Ans
1. 2 : 3
2. 1 : 2
3. 1 : 6
4. 3 : 5

Question ID : 9895805665
Chosen Option : 1

Q.6 एक ठोस खिलौना अर्धगोले पर रखे शंकु के आकार का है। शंकु की ऊंचाई 4 cm है तथा आधार का व्यास 6 cm है। खिलौने का पृष्ठीय क्षेत्रफल क्या होगा?

- Ans
1. $\frac{726}{7} \text{ cm}^2$
2. $\frac{528}{7} \text{ cm}^2$
3. $\frac{66}{7} \text{ cm}^2$
4. $\frac{660}{7} \text{ cm}^2$

Question ID : 9895805684
Chosen Option : 2

Q.6 एक ठोस बेलन के आधार का व्यास 14 cm है और ऊंचाई 20 cm है। इसके दोनों छोरों से अर्धगोलाकार भाग निकालने पर मिले आकार का आयतन क्या होगा?

- Ans
1. $\frac{9240}{3} \text{ cm}^3$
2. $\frac{13552}{3} \text{ cm}^3$
3. $\frac{4928}{3} \text{ cm}^3$
4. $\frac{4312}{3} \text{ cm}^3$

Question ID : 9895805686
Chosen Option : 2

Q.6 एक राशि पर 25% का वार्षिक दर से एक वर्ष के साधारण ब्याज तथा चक्रवृद्धि ब्याज (ब्याज का संयोजन अर्धवार्षिक किया गया है) के मध्य अंतर ₹ 4375 है। मूलधन क्या होगा?

- Ans
1. ₹ 80000
2. ₹ 75000
3. ₹ 85000
4. ₹ 280000

Question ID : 9895805679
Chosen Option : 4

Q.6
3

नीचे दी गई तालिका विभिन्न कॉलेजों के विभिन्न पाठ्यक्रमों में

दाखिला लेने वाले छात्रों की संख्या दर्शाती है।

Colleges	Courses			
	B1	B2	B3	B4
C1	65	56	65	103
C2	68	58	71	112
C3	72	54	88	125
C4	76	52	75	120
C5	69	60	79	126

किस कॉलेज में प्रति कोर्स छात्रों की औसत संख्या सबसे अधिक है?

- Ans
- 1. C4
 - 2. C2
 - 3. C3
 - 4. C5

Question ID : 9895805688

Chosen Option : 3

Q.6 एक दुकानदार दो वस्तुएं बेचता है, जिनमें से एक को 10% लाभ पर ₹ 1100 में बेचता है और दूसरी को 10% हानि पर ₹ 900 में बेचता है। लाभ या हानि प्रतिशत क्या होगा?

- Ans
- 1. 20% लाभ
 - 2. न लाभ न हानि
 - 3. 20% हानि
 - 4. ₹ 1000

Question ID : 9895805674

Chosen Option : 2

Q.6 P तथा Q की मासिक औसत आय ₹ 20000 है। Q तथा R की मासिक औसत आय ₹ 40000 है। R की मासिक आय P की मासिक आय से कितनी अधिक है?

- Ans
- 1. ₹ 80000
 - 2. ₹ 20000
 - 3. ₹ 40000
 - 4. ₹ 25000

Question ID : 9895805668

Chosen Option : 3

Q.6 सूरज 18 कि.मी. की एक दूरी को 12 मिनट में तय करता है। यदि उसकी गति 30 कि.मी./घंटा कम हो जाती है, तो सूरज समान दूरी को तय करने में कितना समय लेगा?

- Ans
- 1. 12 मिनट
 - 2. 20 मिनट
 - 3. 16 मिनट
 - 4. 18 मिनट

Question ID : 9895805683

Chosen Option : 4

Q.6
7 यदि x का 30% और y का 40% समान हैं तो $y : x$ क्या होगा?

- Ans
- 1. 4 : 3
 - 2. 4 : 7
 - 3. 3 : 4
 - 4. 7 : 4

Question ID : 9895805677

Chosen Option : 1

Q.6
8 एक बैग में ₹ 785 के ₹ 2, ₹ 5 और ₹ 10 के सिक्के हैं। सिक्के 6 : 9 : 10 के अनुपात में हैं। बैग में ₹ 5 के कितने सिक्के हैं?

- Ans
- 1. 12
 - 2. 24
 - 3. 45
 - 4. 60

Question ID : 9895805675

Chosen Option : 2

Q.6
9 एक वस्तु का अंकित मूल्य ₹ 8840 है। यदि वस्तु पर 35% की छूट दी गई है, तो वस्तु का विक्रय मूल्य क्या होगा?

- Ans
- 1. ₹ 6176
 - 2. ₹ 6324
 - 3. ₹ 6548
 - 4. ₹ 5746

Question ID : 9895805670

Chosen Option : 4

Q.7
0 तीन घन जिनकी भुजा की माप 7 cm है, साथ - साथ जोड़े गए हैं। प्राप्त ठोस का पृष्ठीय क्षेत्रफल क्या होगा?

- Ans
- 1. 686 cm²
 - 2. 882 cm²
 - 3. 686 cm
 - 4. 882 cm

Question ID : 9895805685

Chosen Option : 4

Q.7
1 $\left[100 \div 50 - 25 - 55 \text{ का } \left(\frac{1}{3} \times \frac{11}{9}\right)\right]$ का मान क्या है?

- Ans
- 1. $-\frac{1156}{27}$
 - 2. $-\frac{1321}{27}$
 - 3. $-\frac{1226}{27}$
 - 4. $-\frac{1382}{27}$

Question ID : 9895805666

Chosen Option : 3

Q.7 अनिल, दिनेश तथा दीपक मिलकर एक कार्य को 40 दिन में पूरा कर सकते हैं। अनिल तथा दिनेश मिलकर समान कार्य को 50 दिन में पूरा कर सकते हैं। दीपक अकेला समान कार्य को कितने दिन में पूरा कर सकता है?

- Ans
- 1. 75 दिन
 - 2. 200 दिन
 - 3. 150 दिन
 - 4. 90 दिन

Question ID : 9895805680
Chosen Option : 2

Q.7 यदि एक 32 वर्ष के पुरुष को एक नए पुरुष से बदलते हैं, तो 42 पुरुषों की औसत आयु 1 वर्ष बढ़ जाती है। नए पुरुष की आयु क्या है?

- Ans
- 1. 75 वर्ष
 - 2. 74 वर्ष
 - 3. 73 वर्ष
 - 4. 72 वर्ष

Question ID : 9895805669
Chosen Option : 2

Q.7 एक ₹ 4000 की राशि को 10% की वार्षिक दर से साधारण ब्याज पर उधार दिया जाता है। 5 वर्ष का साधारण ब्याज, 3 वर्ष के साधारण ब्याज से कितना अधिक है?

- Ans
- 1. ₹ 800
 - 2. ₹ 600
 - 3. ₹ 1200
 - 4. ₹ 400

Question ID : 9895805678
Chosen Option : 1

Q.7 तीन व्यक्तियों A, B और C ने 3 : 4 : 5 में निवेश के साथ एक व्यापार शुरू किया। 4 महीने बाद B ने अपनी पूंजी का 50% धन निकाल लिया। वर्ष पूरा होने से 4 महीने पहले C ने अपनी पूंजी का 20% धन निकाल लिया। यदि उस वर्ष में कुल लाभ ₹ 31,000 हुआ तो लाभ में A का भाग ज्ञात करो।

- Ans
- 1. ₹ 10330
 - 2. ₹ 9300
 - 3. ₹ 7750
 - 4. ₹ 9000

Question ID : 9895805676
Chosen Option : 4

Section : English Language

Q.1 Select the antonym of the given word

SERENE

- Ans
- 1. Superb
 - 2. Showy

3. Stressed
 4. Splendid

Question ID : 9895805220
Chosen Option : --

Q.2 Select the correctly spelt word.

- Ans 1. Bureucrazy
 2. Bureaucrasy
 3. Bureaucracy
 4. Buraucracy

Question ID : 9895805226
Chosen Option : --

Q.3 Select the word which means the same as the group of words given.

The method and practice of teaching

- Ans 1. Philosophy
 2. Psychology
 3. Methodology
 4. Pedagogy

Question ID : 9895805224
Chosen Option : --

Q.4 Select the most appropriate option to substitute the underlined segment in the given sentence. If there is no need to substitute it, select No improvement.

In the interview held recently, I answer the questions as best as I could.

- Ans 1. I answered the question as best as I can.
 2. I answered the questions as best as I could.
 3. No improvement.
 4. I answer the question as best as I could.

Question ID : 9895805209
Chosen Option : --

Q.5 Select the correctly spelt word.

- Ans 1. Mathematics
 2. Mathmetics
 3. Mathametics
 4. Mathamatics

Question ID : 9895805227
Chosen Option : --

Q.6 Select the most appropriate option to fill in the blank.

We need not worry about anything _____ his commitment to the work he is assigned.

- Ans
- 1. except
 - 2. accept
 - 3. access
 - 4. expect

Question ID : 9895805211

Chosen Option : --

Q.7 Select the most appropriate word to fill in the blank.

India's Republic Day Parade had, among the main _____, an all-women's marching contingent.

- Ans
- 1. attractions
 - 2. displays
 - 3. spectacle
 - 4. demonstrations

Question ID : 9895805229

Chosen Option : --

Q.8 Select the option that means the same as the given idiom.

To set aside

- Ans
- 1. To stop temporarily
 - 2. to reject an offer
 - 3. To finish a work
 - 4. To move sideways

Question ID : 9895805222

Chosen Option : --

Q.9 From the given options, identify the segment in the sentence which contains the grammatical error.

The researchers have found that all species makes a constructive contribution to the ecology of the earth.

- Ans
- 1. The researchers have found
 - 2. that all species makes
 - 3. a constructive contribution to
 - 4. the ecology of the earth.

Question ID : 9895805205

Chosen Option : --

Comprehension:

In the following passage some words have been deleted. Fill in the blanks with the help of the alternatives given.

Given that the availability of safe drinking water touches the lives of everyone, the _____ (1) of Safe Drinking Water Mission can hardly be underestimated. Undoubtedly, this is one of the most _____ (2) public goods problems to solve. The private solution of reaching out for bottled water due to risks posed by tap water is a _____ (3) one. Even the poor are forced to choose between risking hospital expenses and buying bottled water. Taking into consideration the _____ (4) scenario, it is the duty of every citizen to find out possible and inexpensive means to _____ (5) that safe drinking water is available to all.

SubQuestion No : 10

Q.1
0 Select the most appropriate option that will fill in the blank number 1.

- Ans
- 1. progress
 - 2. significance
 - 3. consequence
 - 4. safety

Question ID : 9895805213
Chosen Option : --

Comprehension:

In the following passage some words have been deleted. Fill in the blanks with the help of the alternatives given.

Given that the availability of safe drinking water touches the lives of everyone, the _____ (1) of Safe Drinking Water Mission can hardly be underestimated. Undoubtedly, this is one of the most _____ (2) public goods problems to solve. The private solution of reaching out for bottled water due to risks posed by tap water is a _____ (3) one. Even the poor are forced to choose between risking hospital expenses and buying bottled water. Taking into consideration the _____ (4) scenario, it is the duty of every citizen to find out possible and inexpensive means to _____ (5) that safe drinking water is available to all.

SubQuestion No : 11

Q.1
1 Select the most appropriate option that will fill in the blank number 2.

- Ans
- 1. complete
 - 2. difficult
 - 3. whole
 - 4. ready

Question ID : 9895805214
Chosen Option : --

Comprehension:

In the following passage some words have been deleted. Fill in the blanks with the help of the alternatives given.

Given that the availability of safe drinking water touches the lives of everyone, the _____ (1) of Safe Drinking Water Mission can hardly be underestimated. Undoubtedly, this is one of the most _____ (2) public goods problems to solve. The private solution of reaching out for bottled water due to risks posed by tap water is a _____ (3) one. Even the poor are forced to choose between risking hospital expenses and buying bottled water. Taking into consideration the _____ (4) scenario, it is the duty of every citizen to find out possible and inexpensive means to _____ (5) that safe drinking water is available to all.

SubQuestion No : 12

Q.1
2 Select the most appropriate option that will fill in the blank number 3.

- Ans
- 1. factual
 - 2. material
 - 3. costly
 - 4. simple

Question ID : 9895805215
Chosen Option : --

Comprehension:

In the following passage some words have been deleted. Fill in the blanks with the help of the alternatives given.

Given that the availability of safe drinking water touches the lives of everyone, the _____ (1) of Safe Drinking Water Mission can hardly be underestimated. Undoubtedly, this is one of the most _____ (2) public goods problems to solve. The private solution of reaching out for bottled water due to risks posed by tap water is a _____ (3) one. Even the poor are forced to choose between risking hospital expenses and buying bottled water. Taking into consideration the _____ (4) scenario, it is the duty of every citizen to find out possible and inexpensive means to _____ (5) that safe drinking water is available to all.

SubQuestion No : 13

Q.1
3 Select the most appropriate option that will fill in the blank number 4.

- Ans
- 1. general
 - 2. rural
 - 3. public
 - 4. present

Question ID : 9895805216
Chosen Option : --

Comprehension:

In the following passage some words have been deleted. Fill in the blanks with the help of the alternatives given.

Given that the availability of safe drinking water touches the lives of everyone, the _____ (1) of Safe Drinking Water Mission can hardly be underestimated. Undoubtedly, this is one of the most _____ (2) public goods problems to solve. The private solution of reaching out for bottled water due to risks posed by tap water is a _____ (3) one. Even the poor are forced to choose between risking hospital expenses and buying bottled water. Taking into consideration the _____ (4) scenario, it is the duty of every citizen to find out possible and inexpensive means to _____ (5) that safe drinking water is available to all.

SubQuestion No : 14

Q.1
4 Select the most appropriate option that will fill in the blank number 5.

- Ans
- 1. endorse
 - 2. confirm
 - 3. assure
 - 4. ensure

Question ID : 9895805217
Chosen Option : --

Q.1
5 Select the most appropriate option to fill in the blank.

If an individual keeps his fingers crossed he _____ for the best.

- Ans
- 1. suspects
 - 2. reacts
 - 3. hopes
 - 4. responds

Question ID : 9895805210
Chosen Option : --

Q.1
6 From the given options, identify the segment in the sentence which contains the grammatical error.

One could argue that these are the compulsions of parliamentary democracy for smooth functioning for the State.

- Ans
- 1. these are the compulsions
 - 2. One could argue that
 - 3. functioning for the State.
 - 4. of parliamentary democracy

Question ID : 9895805206
Chosen Option : --

Q.1
7 Select the most appropriate option to substitute the underlined segment in the given sentence. If there is no need to substitute it, select No improvement.

The river is flooded and it has overflown its banks.

- Ans
- 1. No improvement.
 - 2. it has overflow its banks.

3. it overflow its banks.
4. it overflowing its banks.

Question ID : 9895805208

Chosen Option : --

Q.1 From the given options, identify the segment in the sentence which contains the grammatical error.

8

Having worked for the whole day, you shall have taken some rest and begun again.

- Ans 1. some rest and begun again
2. you should have taken
3. the whole day
4. Having worked for

Question ID : 9895805204

Chosen Option : --

Q.1 Select the word which means the same as the group of words given.

9

A person who presents a radio/television programme

- Ans 1. Reporter
2. Alchemist
3. Anchor
4. Anarchist

Question ID : 9895805225

Chosen Option : --

Q.2 Select the antonym of the given word

0

CONTRARY

- Ans 1. Balanced
2. Predetermined
3. Neutral
4. Agreeable

Question ID : 9895805221

Chosen Option : --

Q.2 Select the synonym of the given word.

1

INDUSTRIOUS

- Ans 1. Diligent
2. Fruitful
3. Practical
4. Prompt

Question ID : 9895805218

Chosen Option : --

Q.2 Select the most appropriate option to substitute the underlined segment in the given sentence. If there is no need to substitute it, select No improvement.

As you can see from my resume, I am working in Mumbai since 2016.

- Ans
- 1. No improvement.
 - 2. I have been working in Mumbai since 2016.
 - 3. I am work in Mumbai since 2016.
 - 4. I am working in Mumbai from 2016.

Question ID : 9895805207
Chosen Option : --

Q.2 Select the most appropriate option to fill in the blank.

Sometimes it is necessary for an author to know what is going on in the minds of his _____.

- Ans
- 1. listeners
 - 2. viewers
 - 3. characters
 - 4. audience

Question ID : 9895805228
Chosen Option : --

Q.2 Select the option that means the same as the given idiom.

To miss the boat

- Ans
- 1. To decide to travel by air
 - 2. To miss the journey by boat
 - 3. To fail to complete the work
 - 4. To miss an opportunity

Question ID : 9895805223
Chosen Option : --

Q.2 Select the synonym of the given word.

MITIGATE

- Ans
- 1. Excuse
 - 2. Lessen
 - 3. Moderate
 - 4. Improve

Question ID : 9895805219
Chosen Option : --

Section : Hindi Language

Comprehension:

निम्नलिखित गद्यांश के रिक्त स्थानों की पूर्ति गद्यांश के नीचे दिए गए प्रश्नों के अनुसार कीजिए -

अपना स्वभाव छोड़ना किसी के _____ (1) में नहीं है। दुष्ट एवं स्वार्थी को पहचान कर वैसे ही चलना चाहिए जैसे कीचड़ भरे मार्ग में हम बचते हुए चलते हैं। दुष्ट व्यक्ति कुछ पल के लिए अपना _____ (2) बदल सकता है परन्तु _____ (3) मिलते ही वह अपनी दुष्टता पर उतारू हो जाएगा। करेला मीठा नहीं हो सकता एवं साँप विष की जगह _____ (4) नहीं उगल सकता। पाँचों _____ (5) बराबर नहीं होती।

SubQuestion No : 1

Q.1 गद्यांश में संकेतित रिक्त स्थान (1) के लिए उपयुक्त शब्द होगा -

- Ans
- 1. पैर
 - 2. आँख
 - 3. हाथ
 - 4. दिमाग

Question ID : 9895805521
Chosen Option : 3

Comprehension:

निम्नलिखित गद्यांश के रिक्त स्थानों की पूर्ति गद्यांश के नीचे दिए गए प्रश्नों के अनुसार कीजिए -

अपना स्वभाव छोड़ना किसी के _____ (1) में नहीं है। दुष्ट एवं स्वार्थी को पहचान कर वैसे ही चलना चाहिए जैसे कीचड़ भरे मार्ग में हम बचते हुए चलते हैं। दुष्ट व्यक्ति कुछ पल के लिए अपना _____ (2) बदल सकता है परन्तु _____ (3) मिलते ही वह अपनी दुष्टता पर उतारू हो जाएगा। करेला मीठा नहीं हो सकता एवं साँप विष की जगह _____ (4) नहीं उगल सकता। पाँचों _____ (5) बराबर नहीं होती।

SubQuestion No : 2

Q.2 गद्यांश में संकेतित रिक्त स्थान (1) के लिए उपयुक्त शब्द होगा -

- Ans
- 1. व्यवहार
 - 2. घूमना
 - 3. नाचना
 - 4. सोना

Question ID : 9895805522
Chosen Option : 1

Comprehension:

निम्नलिखित गद्यांश के रिक्त स्थानों की पूर्ति गद्यांश के नीचे दिए गए प्रश्नों के अनुसार कीजिए -

अपना स्वभाव छोड़ना किसी के _____ (1) में नहीं है। दुष्ट एवं स्वार्थी को पहचान कर वैसे ही चलना चाहिए जैसे कीचड़ भरे मार्ग में हम बचते हुए चलते हैं। दुष्ट व्यक्ति कुछ पल के लिए अपना _____ (2) बदल सकता है परन्तु _____ (3) मिलते ही वह अपनी दुष्टता पर उतारू हो जाएगा। करेला मीठा नहीं हो सकता एवं साँप विष की जगह _____ (4) नहीं उगल सकता। पाँचों _____ (5) बराबर नहीं होती।

SubQuestion No : 3

Q.3 गद्यांश में संकेतित रिक्त स्थान (1) के लिए उपयुक्त शब्द होगा -

- Ans
- 1. नौकरी
 - 2. बाजार
 - 3. घर
 - 4. अवसर

Question ID : 9895805523
Chosen Option : 4

Comprehension:

निम्नलिखित गद्यांश के रिक्त स्थानों की पूर्ति गद्यांश के नीचे दिए गए प्रश्नों के अनुसार कीजिए -

अपना स्वभाव छोड़ना किसी के _____ (1) में नहीं है। दुष्ट एवं स्वार्थी को पहचान कर वैसे ही चलना चाहिए जैसे कीचड़ भरे मार्ग में हम बचते हुए चलते हैं। दुष्ट व्यक्ति कुछ पल के लिए अपना _____ (2) बदल सकता है परन्तु _____ (3) मिलते ही वह अपनी दुष्टता पर उतारू हो जाएगा। करेला मीठा नहीं हो सकता एवं साँप विष की जगह _____ (4) नहीं उगल सकता। पाँचों _____ (5) बराबर नहीं होती।

SubQuestion No : 4

Q.4 गद्यांश में संकेतित रिक्त स्थान (1) के लिए उपयुक्त शब्द होगा -

- Ans
- 1. पानी

2. दूध
 3. कीचड़
 4. अमृत

Question ID : 9895805524
 Chosen Option : 4

Comprehension:

निम्नलिखित गद्यांश के रिक्त स्थानों की पूर्ति गद्यांश के नीचे दिए गए प्रश्नों के अनुसार कीजिए -

अपना स्वभाव छोड़ना किसी के _____ (1) में नहीं है। दुष्ट एवं स्वार्थी को पहचान कर वैसे ही चलना चाहिए जैसे कीचड़ भरे मार्ग में हम बचते हुए चलते हैं। दुष्ट व्यक्ति कुछ पल के लिए अपना _____ (2) बदल सकता है परन्तु _____ (3) मिलते ही वह अपनी दुष्टता पर उतारू हो जाएगा। करेला मीठा नहीं हो सकता एवं साँप विष की जगह _____ (4) नहीं उगल सकता। पाँचों _____ (5) बराबर नहीं होती।

SubQuestion No : 5

Q.5 गद्यांश में संकेतित रिक्त स्थान (1) के लिए उपयुक्त शब्द होगा -

- Ans 1. नाक
 2. उँगलियाँ
 3. आँख
 4. कान

Question ID : 9895805525
 Chosen Option : 2

Q.6 दिए गए शब्द का विलोम चुनें।

प्रवेश

- Ans 1. पास
 2. आना
 3. निकास
 4. दूर

Question ID : 9895805526
 Chosen Option : 3

Q.7 दिए गए वाक्य में रेखांकित खंड को प्रतिस्थापित करने के लिए उपयुक्त विकल्प का चयन करें।

जिस दिन मैं उस संत से मिली, उनके वाणी से मैं प्रभावित हो गई।

- Ans 1. उनका वाणी से

2. उनसे वाणी की
3. उनमें वाणी से
4. उनकी वाणी से

Question ID : 9895805515
Chosen Option : 4

Q.8 दिए गए वाक्य का वह भाग ज्ञात करें जिसमें कोई त्रुटि है।

उद्योग-धंधों के विस्तार से वृक्षों की संख्या से निरंतर गिरावट आ रही है।

- Ans 1. वृक्षों की संख्या से
2. उद्योग-धंधों के
3. निरंतर गिरावट आ रही है।
4. विस्तार से

Question ID : 9895805511
Chosen Option : 1

Q.9 रिक्त स्थान को भरने के लिए उपयुक्त शब्द का चयन करें।

आभूषण मनुष्य की _____ बढ़ाते हैं।

- Ans 1. शक्ति
2. प्रेम
3. तेज
4. शोभा

Question ID : 9895805517
Chosen Option : 4

Q.10 दिए गए शब्द के पर्यायवाची शब्द का चयन करें।

रात्रि

- Ans 1. हिमानी
2. ज्ञानी
3. गजनी
4. रजनी

Question ID : 9895805528
Chosen Option : 4

Q.11 रिक्त स्थान को भरने के लिए उपयुक्त शब्द का चयन करें।

मुझे विश्वास है कि अच्छे _____ जरूर आएँगे।

- Ans 1. दोपहर

2. रात
 3. दिन
 4. सुबह

Question ID : 9895805519
 Chosen Option : 3

Q.1 2 दिए गए वाक्य में रेखांकित खंड को प्रतिस्थापित करने के लिए उपयुक्त विकल्प का चयन करें।

हम जो भी कार्य करें वह सावधानी पूर्वकता होना चाहिए।

- Ans 1. सावधानपूर्वक होना चाहिए।
 2. सावधानीपूर्वक होना चाहिए।
 3. सावधानतापूर्वक होना चाहिए।
 4. सावधानी पूर्व होना चाहिए।

Question ID : 9895805513
 Chosen Option : 2

Q.1 3 रिक्त स्थान को भरने के लिए उपयुक्त शब्द का चयन करें।

उसने _____ से पत्र लिखा।

- Ans 1. कलम
 2. मोबाइल
 3. कागज
 4. किताब

Question ID : 9895805518
 Chosen Option : 1

Q.1 4 निम्नलिखित में से उस विकल्प का चयन करें जो 'गड़े मुर्दे उखाड़ना' मुहावरे का अर्थ व्यक्त करता है।

- Ans 1. पुरानी बातें उठाना
 2. गड़े हुए मुर्दों को कहीं और ले जाना
 3. नई कहानियाँ बनाना
 4. मुर्दों को कब्र से उठाना

Question ID : 9895805530
 Chosen Option : 1

Q.1 5 सही वर्तनी वाले शब्द का चयन करें।

- Ans 1. ऊर्पयुक्त
 2. उपर्युक्त
 3. उपरीयुक्त

4. उपरियुत

Question ID : 9895805534
Chosen Option : 2

Q.1
6 रिक्त स्थान को भरने के लिए उपयुक्त शब्द का चयन करें।

दर्जी कपड़े _____ है।

- Ans
- 1. सिलता
 - 2. धोता
 - 3. धुनता
 - 4. बुनता

Question ID : 9895805516
Chosen Option : 1

Q.1
7 दिये गये वाक्यांश के लिए एक शब्द दीजिये।

जिसमें जानने की इच्छा हो

- Ans
- 1. जिज्ञासु
 - 2. जानकारी
 - 3. पिपासु
 - 4. लोलुप

Question ID : 9895805533
Chosen Option : 1

Q.1
8 दिए गए शब्द का विलोम चुनें।

उत्तम

- Ans
- 1. बढ़िया
 - 2. अधम
 - 3. अधर
 - 4. अति

Question ID : 9895805527
Chosen Option : 4

Q.1
9 दिए गए शब्द के पर्यायवाची शब्द का चयन करें।

सरस्वती

- Ans
- 1. माता
 - 2. शारदा
 - 3. नेत्री
 - 4. देवी

Question ID : 9895805529
Chosen Option : 2

Q.2
0 निम्नलिखित में से उस विकल्प का चयन करें जो 'तेल निकालना' मुहावरे का अर्थ व्यक्त करता है।

- Ans
- 1. कम काम लेना
 - 2. बहुत अधिक काम करा लेना
 - 3. कम काम करना
 - 4. तेल के कुएँ से तेल बाहर निकालना

Question ID : 9895805531
Chosen Option : 2

Q.2
1 दिए गए वाक्य में रेखांकित खंड को प्रतिस्थापित करने के लिए उपयुक्त विकल्प का चयन करें।

जब वह मुझसे मिलती थी तब मेरे चरणों छूने का प्रयास करती थी।

- Ans
- 1. चरण छूना के
 - 2. चरण छूने का
 - 3. चरणों छूना का
 - 4. चरणों छूने का

Question ID : 9895805514
Chosen Option : 2

Q.2
2 दिए गए वाक्य का वह भाग ज्ञात करें जिसमें कोई त्रुटि है।

निश्चल और सरल बचपन की खुशियाँ चेहरे पर तैर रहा हैं।

- Ans
- 1. निश्चल और सरल
 - 2. चेहरे पर
 - 3. तैर रहा हैं।
 - 4. बचपन की खुशियाँ

Question ID : 9895805512
Chosen Option : 3

Q.2
3 दिए गए वाक्य का वह भाग ज्ञात करें जिसमें कोई त्रुटि है।

प्रकृति केवल निर्माण ही नहीं, ध्वंस भी करता है।

- Ans
- 1. करता है।
 - 2. ध्वंस भी
 - 3. निर्माण ही नहीं,
 - 4. प्रकृति केवल

Question ID : 9895805510

Chosen Option : 1

Q.2
4 दिये गये वाक्यांश के लिए एक शब्द दीजिये।

जिसका कोई शत्रु न हो

- Ans
- 1. अजातशत्रु
 - 2. मित्र
 - 3. बंधु
 - 4. सहचर

Question ID : 9895805532
Chosen Option : 1

Q.2
5 सही वर्तनी वाले शब्द का चयन करें।

- Ans
- 1. घोडदौड़
 - 2. घुडदौड़
 - 3. घुड़दौड़
 - 4. धूड़दौड़

Question ID : 9895805535
Chosen Option : 3

KD Job Updates

Constable (GD) in CAPFs, NIA, SSF and Rifleman (GD) in Assam Rifles Examination, 2018

Roll No. :	
Registration No.	
Name :	
Exam Venue :	
Exam Time :	4:00 PM - 5:30 PM
Exam Date :	18/02/2019

Section : General Section

Q.1 नीचे दिए गए कथन के बाद तीन निष्कर्ष I, II और III दिए गए हैं। स्वयं कोई समाधान किए बिना, वह निष्कर्ष चुनें जो दिए गए कथन का तार्किक रूप से अनुसरण करता है।

कथन:

- 1.) कोई विद्यालय संस्थान नहीं है।
- 2.) वे सभी प्रतिष्ठान जो कि संस्थान नहीं हैं, उनके भवन हैं।

निष्कर्ष:

- I. विद्यालय प्रतिष्ठान नहीं होते हैं।
- II. सभी विद्यालयों के भवन होते हैं।
- III. विद्यालयों के भवन नहीं होते हैं।

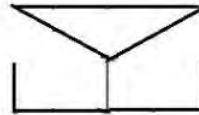
Ans

1. केवल निष्कर्ष III अनुसरण करता है।
2. केवल निष्कर्ष II अनुसरण करता है।
3. केवल निष्कर्ष I अनुसरण करता है।
4. या तो निष्कर्ष I या निष्कर्ष II अनुसरण करता है।

Question ID : 9895803837
Chosen Option : 1

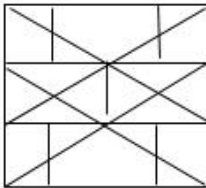
Q.2

विकल्पों में से उस आकृति का चयन करें जिसमें दी गई आकृति समाहित हो।

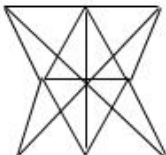


Ans

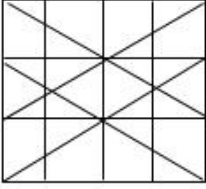
1.



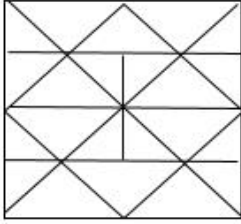
2.



✓ 3.



✗ 4.



Question ID : 9895803847
Chosen Option : 3

Q.3 'समय' उसी तरह 'घड़ी' से संबंधित है, जिस तरह 'दूरी', _____ से संबंधित है।

Ans

- ✗ 1. गंतव्य
✓ 2. ओडोमीटर
✗ 3. अंतर
✗ 4. किलोमीटर

Question ID : 9895803828
Chosen Option : 4

Q.4 निम्नलिखित सेट की संख्याएँ आपस में खास प्रकार से संबंधित हैं। दिए गए विकल्पों में से उस सेट का चयन करें जो निम्नलिखित सेट के समान है।

(4, 6, 9)

Ans

- ✗ 1. {12, 14, 18}
✗ 2. {9, 15, 18}
✗ 3. {6, 8, 12}
✓ 4. {6, 12, 24}

Question ID : 9895803842
Chosen Option : 3

Q.5 P, Q, R, S, T और U एक कतार में खड़े हैं। Q एकदम P के आगे खड़ा है। S एकदम से T के पीछे है। U, R के पास नहीं है, जो दो व्यक्तियों द्वारा Q से अलग किया गया है। कतार में सबसे आगे कौन खड़ा है?

Ans

- ✓ 1. R
✗ 2. U
✗ 3. T
✗ 4. Q

Question ID : 9895803834
Chosen Option : 1

Q.6 कौन से दो चिह्नों को अगर आपस में एक-दूसरे से बदल दिया जाएगा तो निम्नलिखित समीकरण सही हो जाएगा?

$$12 + 18 \times 24 \div 6 - 3 = 19$$

Ans

- ✗ 1. + और ×

✓ 2. ÷ और +

✗ 3. - और ÷

✗ 4. × और ÷

Question ID : 9895803843
Chosen Option : 2

Q.7 असंगत युग्म का चयन करें।

Ans ✗ 1. 12-86

✗ 2. 3-23

✓ 3. 5-31

✗ 4. 8-58

Question ID : 9895803840
Chosen Option : 3

Q.8 अगर एक कूट भाषा में, MACE = 5 और MASTER = 7 है, तो SOLUTION = क्या होगा?

Ans ✓ 1. 9

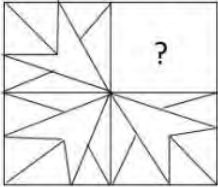
✗ 2. 8

✗ 3. 11

✗ 4. 10

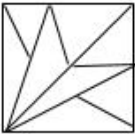
Question ID : 9895803832
Chosen Option : 2

Q.9 उस आकृति का चयन करें जिसे 'X' से चिह्नित रिक्त स्थान पर रखने से चित्र का पैटर्न पूर्ण हो जाएगा।

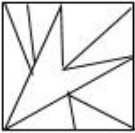


Ans

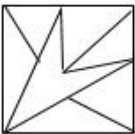
✗ 1.



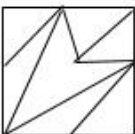
✗ 2.



✓ 3.




✗ 4.



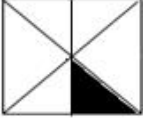
Question ID : 9895803845
Chosen Option : 3

Q.1 विकल्पों में से उस आकृति का चयन करें जो दी गई श्रृंखला में अगले स्थान पर आएगी।

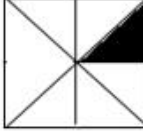


Ans

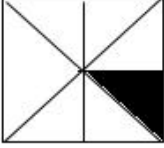
1.



2.



3.



4.



Question ID : 9895803844

Chosen Option : 4

Q.1 उस विकल्प का चयन करें जो सही रूप में रिक्त स्थान को भरे और श्रृंखला को पूरा करें।

1, 3, 8, 19, 42, ____

Ans

1. 93

2. 89

3. 85

4. 77

Question ID : 9895803838

Chosen Option : 2

Q.1 नीचे दिए गए कथनों के बाद दो निष्कर्ष I और II दिए गए हैं। यह मानते हुए कि कथनों में दी गई जानकारी सत्य है, भले ही वह सर्वज्ञात तथ्यों से भिन्न प्रतीत होती हो और यह निर्णय करें कि कौन सा / से निष्कर्ष तार्किक और निश्चित रूप से कथन में दी गई जानकारी का अनुसरण करता है / करते हैं।

कथन:

- 1.) सभी कप मग हैं।
- 2.) सभी कप बर्तन हैं।

निष्कर्ष:

- I. सभी कप बरतन हैं।
- II. कुछ बरतन कप हैं।

Ans

1. केवल निष्कर्ष I अनुसरण करता है।

2. केवल निष्कर्ष II अनुसरण करता है।

3. न तो निष्कर्ष I और ना ही II अनुसरण करता है।

4. निष्कर्ष I और निष्कर्ष II दोनों अनुसरण करते हैं।

Question ID : 9895803836
Chosen Option : 2

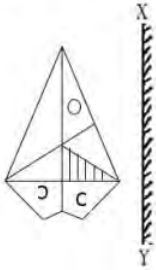
Q.1 उस विकल्प का चयन करें जो तीसरे पद से उसी तरह संबंधित है जिस प्रकार दूसरा पद पहले पद से संबंधित है।
3

CGEI : XTVR :: FJHL : ?

- Ans
- 1. OUQS
 - 2. TNRP
 - 3. UQSO
 - 4. UOQS

Question ID : 9895803830
Chosen Option : 3

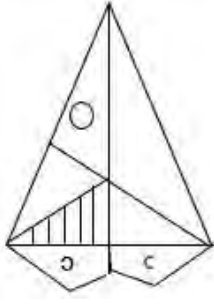
Q.1 उस विकल्प का चयन करें जो XY रेखा पर दर्पण रखे जाने पर दिए गए शब्द की दर्पण छवि से सर्वाधिक मेल खाता है।
4



Ans

- 1.
- 2.
- 3.

✓ 4.



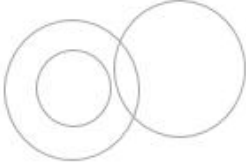
Question ID : 9895803846

Chosen Option : 4

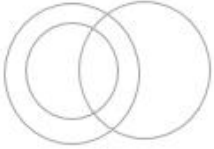
Q.1 निम्नलिखित में से कौन सा वेन रेखाचित्र महिलाओं, माताओं और अभियंताओं के वर्ग के बीच के संबंध को सही-सही दर्शाता है?

Ans

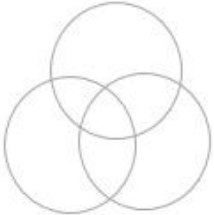
✗ 1.



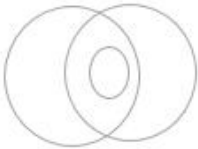
✓ 2.



✗ 3.



✗ 4.



Question ID : 9895803849

Chosen Option : 2

Q.1 उस विकल्प का चयन करें जो सही रूप में रिक्त स्थान को भरे और श्रृंखला को पूरा करें।

6, 9, 18, 27, ____, 81

Ans

✗ 1. 36

✗ 2. 48

✓ 3. 54

✗ 4. 62

Question ID : 9895803839

Chosen Option : 3

Q.1 निम्न चार अक्षर समूहों में से कौन सा एक इस समूह का हिस्सा नहीं है?

Ans

✗ 1. NKLM

✗ 2. WTUV

✓ 3. SOPQ

4. HEFG

Question ID : 9895803826

Chosen Option : 3

Q.1 उस विकल्प का चयन करें जो तीसरे पद से उसी तरह संबंधित है जिस प्रकार दूसरा पद पहले पद से संबंधित है।
8 हृदय : शिराएँ :: नदी : ?

- Ans 1. जल
 2. समुद्र
 3. धारा
 4. सहायक नदियाँ

Question ID : 9895803829

Chosen Option : 3

Q.1 छह दोस्त A, B, C, D, E और F एक गोल मेज की चारों ओर केंद्र की तरफ मुखातिब होकर बैठे हैं। C, A और B के बीच बैठा है, जो D के एकदम बाईं ओर बैठा है। अगर C, E से मुखातिब है, तो F के सामने कौन है?

- Ans 1. B
 2. A
 3. E
 4. D

Question ID : 9895803833

Chosen Option : 2

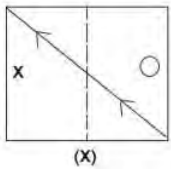
Q.2 असंगत का चयन करें।

- Ans 1. स्पेन
 2. पेरिस
 3. लंदन
 4. रोम

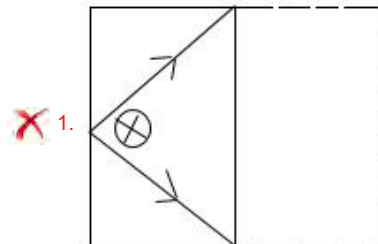
Question ID : 9895803827

Chosen Option : 3

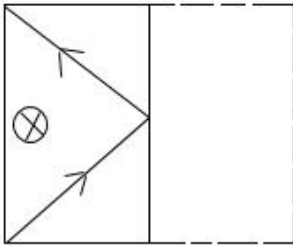
Q.2 'X' से चिह्नित आयताकार पारदर्शी शीट का पैटर्न तब कैसा दिखेगा जब इस शीट को डॉट से बनाई गई रेखा पर मोड़ा जाएगा?



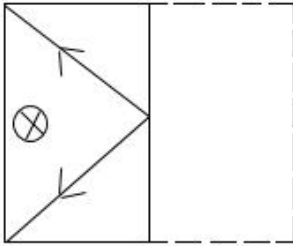
Ans



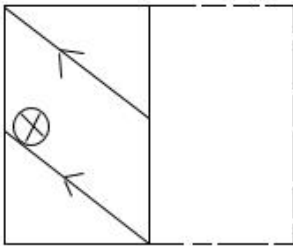
✓ 2.



✗ 3.



✗ 4.



Question ID : 9895803848

Chosen Option : 2

Q.2 अगर एक कूट भाषा में, MOTHER को OMHTRE के रूप में कूटबद्ध किया जाता है, तो THURSDAY को कैसे कूटबद्ध किया जाएगा?

- Ans
- ✗ 1. UHTDSRYA
 - ✓ 2. HTRUDSYA
 - ✗ 3. HTRUSDYA
 - ✗ 4. HTRUSDAY

Question ID : 9895803831

Chosen Option : 2

Q.2 उस विकल्प का चयन करें जो सही रूप में रिक्त स्थान को भरे और श्रृंखला को पूरा करें।

pmtz, rkvx, tixv, vgzt, _____

- Ans
- ✗ 1. yerb
 - ✗ 2. xeyv
 - ✓ 3. xebr
 - ✗ 4. zdcw

Question ID : 9895803825

Chosen Option : 3

Q.2 पिकी, प्रिया से लंबी है लेकिन रीना से छोटी है। रीना, शीला से लंबी है जो कि प्रिया से छोटी है। रीना, रिया से लंबी है जो कि पिकी से लंबी है। तो सबसे छोटी कौन है?

- Ans
- ✗ 1. रिया
 - ✗ 2. प्रिया
 - ✓ 3. शीला
 - ✗ 4. पिकी

Question ID : 9895803835
Chosen Option : 2

Q.2 5 चार संख्याएँ दी गई हैं जिनमें से तीन संख्याएँ किसी न किसी रूप में समान हैं, जबकि एक संख्या भिन्न है। असंगत संख्या चुनिए।

- Ans
- 1. 73
 - 2. 23
 - 3. 33
 - 4. 53

Question ID : 9895803841
Chosen Option : 3

Q.2 6 सच्चिदानंद सिन्हा के स्थान पर भारत की संविधान सभा का अध्यक्ष कौन बना?

- Ans
- 1. मोहनदास करमचन्द गांधी
 - 2. पं. जवाहरलाल नेहरू
 - 3. डॉ. राजेंद्र प्रसाद
 - 4. सरदार वल्लभभाई पटेल

Question ID : 9895805386
Chosen Option : 3

Q.2 7 खाने के बाद पेट में होने वाली एसिडिटी को इसे लेने से खत्म किया जा सकता है:

- Ans
- 1. नींबू का रस
 - 2. सब्जियां
 - 3. बेकिंग सोडा
 - 4. फलों का रस

Question ID : 9895805389
Chosen Option : 1

Q.2 8 ब्रिटिश सरकार द्वारा भेजे गए साइमन कमीशन का बहिष्कार किया गया क्योंकि:

- Ans
- 1. कमीशन ने भारत की वित्तीय स्वतंत्रता पर अंकुश लगाया।
 - 2. सदस्यों के बीच मतभेद थे।
 - 3. कमीशन में कोई भी भारतीय सदस्य नहीं था।
 - 4. इसने रियासतों को विशेष अधिकार दिए।

Question ID : 9895805401
Chosen Option : 3

Q.2 9 निम्नलिखित में से कौन सी मिट्टी भारत के उत्तरी मैदानों में पाई जाती है?

- Ans
- 1. शुष्क ज़मीन
 - 2. जलोढ़ ज़मीन

3. लेटराइट ज़मीन

4. काली ज़मीन

Question ID : 9895805402

Chosen Option : 2

Q.3
0 भारतीय संविधान में मौलिक कर्तव्यों को कौन से संशोधन द्वारा शामिल किया गया था?

Ans 1. 56 वें संशोधन

2. 14 वें संशोधन

3. 25 वें संशोधन

4. 42 वें संशोधन

Question ID : 9895805398

Chosen Option : 1

Q.3
1 हमारे भोजन में आयोडीन युक्त नमक होना क्यों महत्वपूर्ण है?

Ans 1. यह दृष्टि में सुधार करता है।

2. यह ऊंचाई हासिल करने में मदद करता है।

3. यह हड्डियों के निर्माण में मदद करता है।

4. यह थायरॉयड ग्रंथि के सुचारु संचालन में मदद करता है।

Question ID : 9895805405

Chosen Option : 3

Q.3
2 इमली में मौजूद अम्ल का नाम बताइए।

Ans 1. एमिनो अम्ल

2. टारटरिक अम्ल

3. लैक्टिक अम्ल

4. साइट्रिक अम्ल

Question ID : 9895805408

Chosen Option : 2

Q.3
3 कोणार्क सूर्य मंदिर कहाँ स्थित है?

Ans 1. केदारनाथ

2. तिरुपति

3. मदुराई

4. ओडिशा

Question ID : 9895805392

Chosen Option : 4

Q.3

4 12वीं पंच वर्षीय योजना का उद्देश्य क्या था?

- Ans
- 1. स्थिरता और प्रगतिशील उपलब्धि के साथ विकास
 - 2. गरीबी और महिलाओं के शोषण को कम करना
 - 3. तीव्र, टिकाऊ और अधिक समावेशी विकास
 - 4. तीव्र और अधिक समावेशी विकास

Question ID : 9895805393
Chosen Option : 1

Q.3 5 भारत की रियासतों के एकीकरण में किसने निर्णायक भूमिका निभाई थी?

- Ans
- 1. एपीजे अब्दुल कलाम
 - 2. सरदार वल्लभभाई पटेल
 - 3. टीटी कृष्णामूर्ति
 - 4. मोतीलाल नेहरू

Question ID : 9895805396
Chosen Option : 2

Q.3 6 'मूनवॉक', प्रसिद्ध नृत्य चाल, निम्न में से किसके साथ जुड़ा हुआ है?

- Ans
- 1. मीशा ब्रायन
 - 2. एडेल
 - 3. माइकल जैक्सन
 - 4. फ्रेड एस्टेयर

Question ID : 9895805391
Chosen Option : 3

Q.3 7 1977 में भारतीय जनसंघ (BJS) की स्थापना निम्नलिखित में से किसने की?

- Ans
- 1. दीन दयाल उपाध्याय
 - 2. श्यामा प्रसाद मुखर्जी
 - 3. विनायक सावरकर
 - 4. आशुतोष मुखर्जी

Question ID : 9895805384
Chosen Option : 2

Q.3 8 भारत के वित्त मंत्री ने अपने बजट भाषण में स्वदेशी रूप से विकसित _____ नामक अर्द्ध उच्च - गति ट्रेन के शुभारम्भ की घोषणा की।

- Ans
- 1. वायकॉम एक्सप्रेस
 - 2. वंदे भारत एक्सप्रेस
 - 3. विक्रमशीला एक्सप्रेस

4. वीर जवान एक्सप्रेस

Question ID : 9895805395
Chosen Option : 2

Q.3 ओलंपिक बैडमिंटन एकल क्वार्टर फाइनल में पहुंचने वाली पहली भारतीय महिला खिलाड़ी कौन थी?

Ans

1. पी. वी. सिंधु
 2. अपर्णा पोपट
 3. साइना नेहवाल
 4. अश्विनी पी

Question ID : 9895805388
Chosen Option : 2

Q.4 किस आंदोलन का नेतृत्व मुहम्मद अली और शौकत अली ने किया था?

Ans

1. बादशाही आंदोलन
 2. देवबंद आंदोलन
 3. खिलाफत आंदोलन
 4. सुल्तानिया आंदोलन

Question ID : 9895805399
Chosen Option : 3

Q.4 बांधों को 'आधुनिक भारत के मंदिर' किसने कहा था?

Ans

1. सरदार वल्लभभाई पटेल
 2. पं. जवाहरलाल नेहरू
 3. टी कृष्णनचारी
 4. मोहनदास करमचन्द गांधी

Question ID : 9895805403
Chosen Option : 1

Q.4 यदि दूध को ग्रीष्मकाल में फ्रिज के बाहर रखा जाए तो वह खट्टा हो जाता है जिसका कारण है:

Ans

1. प्रोटीन का विभाजन होना
 2. इसका रंग
 3. लैक्टोज एसिड में लैक्टोज शर्करा का रूपांतरण
 4. इसमें मौजूद कैल्शियम

Question ID : 9895805407
Chosen Option : 3

Q.4 भारतीय राष्ट्रीय कांग्रेस के लाहौर अधिवेशन ने किस वर्ष में 26 जनवरी को स्वतंत्रता दिवस के रूप में मनाने की घोषणा की थी?

Ans

1. 1935
 2. 1942
 3. 1930
 4. 1920

Question ID : 9895805400
 Chosen Option : 1

Q.4 4 विश्व धरोहर स्थल रोबेन द्वीप निम्नलिखित में से किस विभूति से संबंधित है?

- Ans 1. जिमी कार्टर
 2. जॉन एफ़ कैनेडी
 3. नेल्सन मंडेला
 4. विंस्टन चर्चिल

Question ID : 9895805385
 Chosen Option : 3

Q.4 5 निम्नलिखित में से कौन सा ग्रीनहाउस गैस नहीं है?

- Ans 1. कार्बन डाइऑक्साइड
 2. आर्गन
 3. नाइट्रस ऑक्साइड
 4. मीथेन

Question ID : 9895805406
 Chosen Option : 4

Q.4 6 कागजी शिल्प सांझी की उत्पत्ति भारत के निम्नलिखित में से किस स्थान पर हुई?

- Ans 1. भुवनेश्वर
 2. इंदौर
 3. मथुरा
 4. कोयम्बतूर

Question ID : 9895805390
 Chosen Option : 3

Q.4 7 अंतरिम बजट 2019 के अनुसार, 22वाँ एम्स कहाँ स्थापित करने का प्रस्ताव है।

- Ans 1. असम
 2. झारखंड
 3. हरियाणा
 4. महाराष्ट्र

Question ID : 9895805394
 Chosen Option : 2

Q.4 संपत्ति के अधिकार को भारतीय संविधान के किस संशोधन द्वारा मौलिक अधिकारों की सूची से हटा दिया गया था?

- Ans
- 1. 44 वें संशोधन
 - 2. 41वें संशोधन
 - 3. 43 वें संशोधन
 - 4. 42 वें संशोधन

Question ID : 9895805397
Chosen Option : 1

Q.4 छत पर वर्षा जल संचयन शुरू करने वाला पहला भारतीय राज्य कौन सा है?

- Ans
- 1. राजस्थान
 - 2. केरल
 - 3. असम
 - 4. तमिलनाडु

Question ID : 9895805404
Chosen Option : 1

Q.5 उस स्थान का नाम बताइए जहाँ ओलंपिक खेलों की उत्पत्ति हुई थी?

- Ans
- 1. लातविया
 - 2. अदन
 - 3. यूनान
 - 4. बगदाद

Question ID : 9895805387
Chosen Option : 3

Q.5 एक निश्चित राशि पर 6% सालाना ब्याज दर से साधारण ब्याज $5\frac{1}{2}$ वर्ष में ₹2541 है। वही राशि $5\frac{2}{3}$ वर्षों में सालाना $8\frac{1}{4}$ % ब्याज पर कितनी होगी?

- Ans
- 1. ₹12153
 - 2. ₹11235
 - 3. ₹13125
 - 4. ₹11253

Question ID : 9895805702
Chosen Option : --

Q.5 $[0.08 \div 1.2 \text{ of } (3.4 - 2.6) \times 0.8 \text{ of } 3.2] \text{ of } \frac{9}{16}$ का मान _____ के बीच स्थित है।

- Ans
- 1. 0.11 और 0.13
 - 2. 0.07 और 0.09
 - 3. 0.09 और 0.11
 - 4. 0.13 से 0.15

Question ID : 9895805692
Chosen Option : 3

Q.5 एक त्रिकोणीय पार्क का क्षेत्रफल 18 m, 80 m और 82 m की भुजाओं वाले त्रिकोणीय क्षेत्र के क्षेत्रफल का $5\sqrt{3}$ गुना है।

त्रिकोणीय पार्क का पार्श्व क्या है?

- Ans
- 1. 100 m
 - 2. 120 m
 - 3. 125 m
 - 4. 140 m

Question ID : 9895805705
Chosen Option : 2

Q.5 28 cm की ऊंचाई के बिलकुल वृत्तिय बेलन का (सिलिंडर) वक्र सतह क्षेत्रफल 176 cm^2 है। बेलन का आयतन (cm^3 में) _____ है। ($\pi = \frac{22}{7}$ लीजिए)

- Ans
- 1. 176
 - 2. 110
 - 3. 88
 - 4. 66

Question ID : 9895805706
Chosen Option : 3

Q.5 A ने एक वस्तु 25% लाभ पर B को कोई वस्तु बेची। B ने उसे C को 10% लाभ पर बेची और C ने उसे 40% हानि पर D को बेची। यदि D ने इसे, ₹46.20 में खरीदा है, तो A और B के लाभ के बीच में क्या अंतर है?

- Ans
- 1. ₹7
 - 2. ₹8.50
 - 3. ₹6
 - 4. ₹15

Question ID : 9895805696
Chosen Option : 2

Q.5 एक व्यक्ति 250 km की दूरी निश्चित गति से तय की। यदि उसकी गति 20% कम है, तो उसने उतनी ही दूरी को $1\frac{1}{4}$ घंटे में तय की होती। उनकी गति (km/hr में), शुरू में क्या थी?

- Ans
- 1. $47\frac{1}{2}$
 - 2. 50
 - 3. $52\frac{1}{2}$
 - 4. 45

Question ID : 9895805709
Chosen Option : 2

Q.5 एक साथ काम करते हुए, A, B और C में एक काम को 36 दिनों पूरा कर सकते हैं। यदि A, B और C की दक्षता 5 : 6 : 9 के अनुपात में है, तो B अकेला उसी कार्य को कितने दिनों में पूरा करेगा?

- Ans
- 1. 120 दिन
 - 2. 60 दिन
 - 3. 100 दिन
 - 4. 90 दिन

Question ID : 9895805710

Chosen Option : 1

Q.5 मान ले की x एसी सबसे बड़ी संख्या है, कि जिसके द्वारा 12085, 16914 और 13841 को विभाजित करने से प्रत्येक में शेष समान होता है। x के अंकों का योग क्या है?

- Ans
1. 13
2. 16
3. 14
4. 19

Question ID : 9895805690

Chosen Option : 3

Q.5 जब संख्या x का 32% दूसरी संख्या y में जोड़ा जाता है, तो y 24% बढ़ जाता है। $\frac{(2x+y)}{(3x-y)}$ का मान क्या है?

- Ans
1. 8
2. 2
3. 1
4. 3

Question ID : 9895805698

Chosen Option : 1

Q.6 निम्नलिखित तालिका का अध्ययन करें और प्रश्न का उत्तर दें:

शहर के पांच विद्यालयों में अध्ययन करते छात्रों की संख्या:

शहर	छात्रों की संख्या	लड़कों और लड़कियों का अनुपात लड़कों : लड़कियों
A	680	9 : 8
B	720	4 : 5
C	540	5 : 13
D	660	2 : 1
E	900	13 : 12

कितने विद्यालयों में, लड़कियों की संख्या प्रति विद्यालय लड़कों की औसत संख्या से अधिक है?

- Ans
1. 1
2. 3
3. 2
4. 4

Question ID : 9895805713

Chosen Option : 1

Q.6
1

निम्नलिखित तालिका का अध्ययन करें और प्रश्न का उत्तर दें:

शहर के पांच विद्यालयों में अध्ययन करते छात्रों की संख्या:

शहर	छात्रों की संख्या	लड़कों और लड़कियों का अनुपात लड़कों : लड़कियों
A	680	9 : 8
B	720	4 : 5
C	540	5 : 13
D	660	2 : 1
E	900	13 : 12

स्कूल B और C में लड़कियों की कुल संख्या स्कूल A और D में लड़कों की कुल संख्या से कितने प्रतिशत कम है?

- Ans 1. 1.25
 2. 10
 3. 4
 4. 11.25

Question ID : 9895805714
Chosen Option : 1

Q.6 यदि एक गोले की त्रिज्या 25% तक कम हो जाती है, तो इसका सतह क्षेत्रफल कितने प्रतिशत कम होगा?
2

- Ans 1. 37.50
 2. 40
 3. 43.75
 4. 42

Question ID : 9895805707
Chosen Option : 1

Q.6 एक समूह में निश्चित संख्या के व्यक्तियों का औसत वजन 75.5 kg था। बाद में, 72.6 kg, 74 kg, 73.4 kg और 70 kg वजन वाले 4 व्यक्ति समूह में शामिल हुए परिणामतः समूह में सभी व्यक्तियों का औसत वजन 500 g कम हो गया। प्रारंभ में समूह के व्यक्तियों की संख्या क्या थी?
3

- Ans 1. 18
 2. 24
 3. 16
 4. 20

Question ID : 9895805693
Chosen Option : 4

Q.6 सुमन ने एक वस्तु को चिह्नित मूल्य पर 16% की छूट देकर ₹882 में बेची। अगर उसने कोई छूट नहीं दी होती, तो उसे वस्तु की क्रय मूल्य पर 20% का लाभ होता। वस्तु का क्रय मूल्य क्या है?
4

- Ans 1. 875
 2. 850
 3. 750
 4. 725

Question ID : 9895805695
Chosen Option : 3

Q.6
5

$$\frac{1\frac{2}{3} + \left[16\frac{1}{2} - \left\{ 1\frac{1}{10} \left(3\frac{1}{3} + 5 \right) \right\} \right]}{\frac{1}{4} \text{ of } 2\frac{1}{2} + \frac{3}{5} \times 4\frac{4}{5}} \text{ का मान क्या है?}$$

Ans

1. $1\frac{2}{5}$
2. $3\frac{1}{5}$
3. $1\frac{4}{5}$
4. $3\frac{2}{5}$

Question ID : 9895805691
Chosen Option : --

Q.6 ₹4107 की राशि को A, B, C और D के बीच उस तरह विभाजित की जाती है जिससे A और B के हिस्सों का अनुपात 3 : 4 है, B और C के हिस्सों का अनुपात 2 : 1 है और C और D के हिस्सों का अनुपात 3 : 5 है तो B का हिस्सा कितना है?

Ans

1. ₹1003
2. ₹1223
3. ₹1443
4. ₹1332

Question ID : 9895805700
Chosen Option : 3

Q.6 दो पाइप A और B क्रमशः 12 मिनट और 15 मिनट में एक टैंक भर सकते हैं। जब एक आउटलेट पाइप C भी खोला जाता है, तो तीन पाइप एक साथ टैंक को 10 मिनट में भर सकते हैं। C अकेले कितने मिनट में पूरा टैंक खाली कर सकता है?

Ans

1. 24
2. 20
3. 18
4. 16

Question ID : 9895805711
Chosen Option : 2

Q.6 दो संख्या 5 : 6 के अनुपात में हैं। यदि 16 को प्रत्येक संख्या में से घटाया जाता है, तो संख्या 3 : 4 के अनुपात में होंगी। यदि 8 को पहली संख्या में जोड़ा जाता है और 3 को दूसरी संख्या से घटाया जाता है, तो अनुपात क्या होगा?

Ans

1. 16 : 15
2. 13 : 14
3. 15 : 16
4. 14 : 13

Question ID : 9895805699
Chosen Option : 1

Q.6 2 : 7 और 4 : 5 के अनुपात में एसिड और पानी युक्त एसिड और पानी के दो घोल क्रमशः 2 : 5 के अनुपात में मिश्र किया जाता है। परिणामतः घोल में एसिड और पानी का अनुपात क्या है?

Ans

1. 8 : 17
2. 3 : 7

3. 2 : 1
4. 8 : 13

Question ID : 9895805701
Chosen Option : 2

Q.7 0 दिए गए डेटा के परास, माधिका और उपलक क्या है?

2, 3, 1, 1, 3, 4, 2, 1, 1, 4, 5, 2, 4, 2, 2, 1, 3, 3, 2, 5

Ans

1. $3\frac{1}{3}$
2. $2\frac{2}{3}$
3. $4\frac{1}{2}$
4. 4

Question ID : 9895805704
Chosen Option : 3

Q.7 1 दूसरे वर्ष और तीसरे वर्ष के लिए निश्चित सालाना दर पे निश्चित राशि पर चक्रवृद्धि ब्याज क्रमशः ₹3300 और ₹3630 है। यह राशि कितनी है?

Ans

1. ₹32000
2. ₹30000
3. ₹25000
4. ₹28400

Question ID : 9895805703
Chosen Option : 2

Q.7 2 एक नाव 36 किमी अनुप्रवाह (डाउनस्ट्रीम) और 16 किमी की प्रतिप्रवाह (अपस्ट्रीम) ओर 10 घंटे में तय कर सकती है। वह 3 किमी अनुप्रवाह (डाउनस्ट्रीम) और 1.2 किमी प्रतिप्रवाह (अपस्ट्रीम) 48 मिनट में तय कर सकती है। प्रतिप्रवाह जाते हुए नाव की गति (km/hr में) क्या है?

Ans

1. 2.5
2. 4
3. 2
4. 3.5

Question ID : 9895805708
Chosen Option : 4

Q.7 3 एक व्यक्ति 26% के लाभ पर एक घड़ी बेचता है। यदि उसने इसे 20% कम पर खरीदा होता और ₹81.60 में बेचा होता, तो उसे 32% का लाभ होता। घड़ी का असली क्रय मूल्य क्या है? (₹ में)

Ans

1. 480
2. 450
3. 360
4. 400

Question ID : 9895805697
Chosen Option : 3

Q.7 निम्नलिखित तालिका का अध्ययन करें और प्रश्न का उत्तर दें:

शहर के पांच विद्यालयों में अध्ययन करते छात्रों की संख्या:

शहर	छात्रों की संख्या	लड़कों और लड़कियों का अनुपात लड़कों : लड़कियों
A	680	9 : 8
B	720	4 : 5
C	540	5 : 13
D	660	2 : 1
E	900	13 : 12

A विद्यालय में लड़कों की संख्या और E विद्यालय में लड़कियों की संख्या की अनुपात क्या है?

- Ans
1. 8 : 13
2. 5 : 6
3. 3 : 4
4. 5 : 12

Question ID : 9895805712
Chosen Option : 4

Q.7 41 संख्याओं का औसत 63 है। पहले 21 संख्याओं का औसत 61.5 है और अंतिम 21 संख्याओं का औसत 65.5 है।
5 यदि 21वीं संख्या को छोड़ा जाए, तो शेष संख्याओं का औसत क्या है?

- Ans
1. 62.5
2. 62.475
3. 63.5
4. 63.575

Question ID : 9895805694
Chosen Option : 2

Section : English Language

Comprehension:

In the following passage some words have been deleted. Fill in the blanks with the help of the alternatives given.

The neglect of one half of mankind costs the world a great deal both, in economic and social (1) _____. A family (2) _____ an educated mother is, in most cases, a poorer family than one in which everyone is educated and can (3) _____ a living. A family with an uneducated mother may (4) _____ in other ways too, because the mother is (5) _____ to help the children in their education.

SubQuestion No : 1

Q.1 Select the most appropriate option that will fill in the blank number 1.

- Ans
1. values
2. aspects
3. areas
4. terms

Question ID : 9895805239

Chosen Option : --

Comprehension:

In the following passage some words have been deleted. Fill in the blanks with the help of the alternatives given.

The neglect of one half of mankind costs the world a great deal both, in economic and social (1) _____. A family (2) _____ an educated mother is, in most cases, a poorer family than one in which everyone is educated and can (3) _____ a living. A family with an uneducated mother may (4) _____ in other ways too, because the mother is (5) _____ to help the children in their education.

SubQuestion No : 2

Q.2 Select the most appropriate option that will fill in the blank number 2.

- Ans
- 1. without
 - 2. of
 - 3. including
 - 4. with

Question ID : 9895805240

Chosen Option : --

Comprehension:

In the following passage some words have been deleted. Fill in the blanks with the help of the alternatives given.

The neglect of one half of mankind costs the world a great deal both, in economic and social (1) _____. A family (2) _____ an educated mother is, in most cases, a poorer family than one in which everyone is educated and can (3) _____ a living. A family with an uneducated mother may (4) _____ in other ways too, because the mother is (5) _____ to help the children in their education.

SubQuestion No : 3

Q.3 Select the most appropriate option that will fill in the blank number 3.

- Ans
- 1. plan
 - 2. create
 - 3. manage
 - 4. earn

Question ID : 9895805241

Chosen Option : --

Comprehension:

In the following passage some words have been deleted. Fill in the blanks with the help of the alternatives given.

The neglect of one half of mankind costs the world a great deal both, in economic and social (1) _____. A family (2) _____ an educated mother is, in most cases, a poorer family than one in which everyone is educated and can (3) _____ a living. A family with an uneducated mother may (4) _____ in other ways too, because the mother is (5) _____ to help the children in their education.

SubQuestion No : 4

Q.4 Select the most appropriate option that will fill in the blank number 4.

- Ans
- 1. suffer
 - 2. fail
 - 3. prosper
 - 4. destroy

Question ID : 9895805242
Chosen Option : --

Comprehension:

In the following passage some words have been deleted. Fill in the blanks with the help of the alternatives given.

The neglect of one half of mankind costs the world a great deal both, in economic and social (1) _____. A family (2) _____ an educated mother is, in most cases, a poorer family than one in which everyone is educated and can (3) _____ a living. A family with an uneducated mother may (4) _____ in other ways too, because the mother is (5) _____ to help the children in their education.

SubQuestion No : 5

Q.5 Select the most appropriate option that will fill in the blank number 5.

- Ans
- 1. unable
 - 2. eligible
 - 3. able
 - 4. qualified

Question ID : 9895805243
Chosen Option : --

Q.6 Select the most appropriate word to fill in the blank.

Apart from cows, buffaloes are also _____ for mass milk production for humans.

- Ans
- 1. produced
 - 2. reared
 - 3. grown
 - 4. developed

Question ID : 9895805254
Chosen Option : --

Q.7 Select the most appropriate option to substitute the underlined segment in the given sentence. If there is no need to substitute it, select No improvement.

Regular exercise lead to fitness of the body.

- Ans
- 1. No improvement
 - 2. will leads to fitness of the body
 - 3. leading to fitness of the body
 - 4. leads to fitness of the body

Question ID : 9895805235

Chosen Option : --

Q.8 Select the most appropriate option to fill in the blank.

The baby bird was _____ by its mother.

- Ans
- 1. thrown
 - 2. sacrificed
 - 3. renounced
 - 4. abandoned

Question ID : 9895805236

Chosen Option : --

Q.9 Select the correctly spelt word.

- Ans
- 1. Accomodate
 - 2. Accomadate
 - 3. Accomodate
 - 4. Accommodate

Question ID : 9895805253

Chosen Option : --

Q.1 From the given options, identify the segment in the sentence which contains the grammatical error.

0

We must visit this ancient temple which are a hundred years old.

- Ans
- 1. which are
 - 2. this ancient temple
 - 3. a hundred years old.
 - 4. We must visit

Question ID : 9895805230

Chosen Option : --

Q.1 From the given options, identify the segment in the sentence which contains the grammatical error.

1

Dr. Rana is our teacher of English since this semester.

- Ans
- 1. Dr. Rana is
 - 2. of English since
 - 3. our teacher
 - 4. this semester.

Question ID : 9895805232
Chosen Option : --

Q.1
2 Select the most appropriate word to fill in the blank.

Dinosaurs are an _____ species now.

- Ans
- 1. antique
 - 2. ancient
 - 3. extinct
 - 4. age-old

Question ID : 9895805255
Chosen Option : --

Q.1
3 Select the correctly spelt word.

- Ans
- 1. Exeggeration
 - 2. Exageration
 - 3. Exaggaration
 - 4. Exaggeration

Question ID : 9895805252
Chosen Option : --

Q.1
4 From the given options, identify the segment in the sentence which contains the grammatical error.

Nowadays spectacles are costly than they used to be.

- Ans
- 1. spectacles are
 - 2. costly than
 - 3. they used to be.
 - 4. Nowadays

Question ID : 9895805231
Chosen Option : --

Q.1
5 Select the antonym of the given word.

MALEVOLENT

- Ans
- 1. Cruel
 - 2. Positive
 - 3. Kind
 - 4. Well-mannered

Question ID : 9895805247
Chosen Option : --

Q.1
6 Select the word which means the same as the group of words given.

Something which gets broken easily

Ans

- 1. Fragile
- 2. Feeble
- 3. Soft
- 4. Weak

Question ID : 9895805251
Chosen Option : --

Q.1
7 Select the synonym of the given word.

HANDY

- Ans
- 1. Convenient
 - 2. Funny
 - 3. Easy
 - 4. Nice

Question ID : 9895805245
Chosen Option : --

Q.1
8 Select the antonym of the given word.

LATENT

- Ans
- 1. Obvious
 - 2. Artificial
 - 3. Hidden
 - 4. Forbidding

Question ID : 9895805246
Chosen Option : --

Q.1
9 Select the most appropriate option to substitute the underlined segment in the given sentence. If there is no need to substitute it, select No improvement.

The Indian forces are known for their bravery.

- Ans
- 1. forces is known for
 - 2. force are known for
 - 3. No improvement
 - 4. forces are known of

Question ID : 9895805233
Chosen Option : --

Q.2
0 Select the most appropriate option to substitute the underlined segment in the given sentence. If there is no need to substitute it, select No improvement.

We should offer due respects to all elderly persons.

- Ans
- 1. offers due respects to
 - 2. No improvement
 - 3. offer due respect to
 - 4. offer due respects for

Question ID : 9895805234

Chosen Option : --

Q.2
1 Select the word which means the same as the group of words given.

One who speaks many languages.

- Ans
- 1. Monolingual
 - 2. Multilingual
 - 3. Bilingual
 - 4. Linguist

Question ID : 9895805250

Chosen Option : --

Q.2
2 Select the synonym of the given word.

NOMADIC

- Ans
- 1. Barbaric
 - 2. Wild
 - 3. Brave
 - 4. Roving

Question ID : 9895805244

Chosen Option : --

Q.2
3 Select the most appropriate option to fill in the blank.

Scientists tried to find out the _____ behind the occurrence of the phenomenon.

- Ans
- 1. illustration
 - 2. clarification
 - 3. cause
 - 4. interpretation

Question ID : 9895805237

Chosen Option : --

Q.2
4 Select the option that means the same as the given idiom.

A stone's throw away

- Ans
- 1. At a short distance
 - 2. Very far off
 - 3. At a remote location
 - 4. Many miles away

Question ID : 9895805248

Chosen Option : --

Q.2
5 Select the option that means the same as the given idiom.

The grass is greener on the other side

- Ans 1. Green grass grows everywhere
2. Only green grass grows well
3. Many things looks like green grass
4. Things appear better for others

Question ID : 9895805249
Chosen Option : --

Section : Hindi Language

Q.1 दिए गए शब्द का विलोम चुनें।

मौन

- Ans 1. मुखर
2. स्वरचित
3. कंठस्थ
4. चुप

Question ID : 9895805553
Chosen Option : --

Q.2 रिक्त स्थान को भरने के लिए उपयुक्त शब्द का चयन करें।

राजीव छत _____ सो रहा है।

- Ans 1. पर
2. से
3. में
4. अंदर

Question ID : 9895805542
Chosen Option : 1

Q.3 रिक्त स्थान को भरने के लिए उपयुक्त शब्द का चयन करें।

सबने _____ बजाई।

- Ans 1. गाल
2. तालियाँ
3. बोलियाँ
4. बाजा

Question ID : 9895805545
Chosen Option : 2

Q.4 दिए गए शब्द के पर्यायवाची शब्द का चयन करें।

मरुस्थल

Ans

1. धूल
2. रेत
3. रेगिस्तान
4. ऊँट

Question ID : 9895805555
Chosen Option : 3

Q.5 दिए गए शब्द का विलोम चुनें।

दूषित

- Ans 1. भ्रष्ट
2. प्रदूषित
3. विकृत
4. स्वच्छ

Question ID : 9895805552
Chosen Option : 4

Q.6 दिए गए वाक्य का वह भाग ज्ञात करें जिसमें कोई त्रुटि है।

कभी न कभी इस भ्रष्टाचार के विरुद्ध हमें आवाज उठानी होगी।

- Ans 1. आवाज उठानी होगा।
2. विरुद्ध हमें
3. कभी न कभी
4. इस भ्रष्टाचार के

Question ID : 9895805538
Chosen Option : 1

Q.7 दिये गये वाक्यांश के लिए एक शब्द दीजिये।

जो सब कुछ जानता हो

- Ans 1. सर्वज्ञ
2. कर्मज्ञ
3. अल्पज्ञ
4. मर्मज्ञ

Question ID : 9895805559
Chosen Option : 1

Q.8 दिए गए वाक्य में रेखांकित खंड को प्रतिस्थापित करने के लिए उपयुक्त विकल्प का चयन करें।

मुझे जिस वस्तु की आवश्यकता है यह वस्तु तुम मुझे दे देना।

- Ans 1. वह वस्तु तुम मेरे को दे देना।

2. यही वस्तु तुम मुझे दे देना।
3. उस वस्तु तुम मुझे दे देना।
4. वह वस्तु तुम मुझे दे देना।

Question ID : 9895805540
Chosen Option : 4

Q.9 निम्नलिखित में से उस विकल्प का चयन करें जो 'थाली का बेंगन' मुहावरे का अर्थ व्यक्त करता है।

- Ans 1. इधर की बात उधर करने वाला व्यक्ति
2. सिद्धांतरहित व्यक्ति
3. घमंडी व्यक्ति
4. सिद्धांतवादी व्यक्ति

Question ID : 9895805556
Chosen Option : 1

Q.1 0 दिए गए वाक्य में रेखांकित खंड को प्रतिस्थापित करने के लिए उपयुक्त विकल्प का चयन करें।
तुम्हारे गुरु तुमकी प्रार्थना स्वीकार कर सकते हैं, परन्तु हम नहीं।

- Ans 1. तुझे प्रार्थना
2. तुमसे प्रार्थना
3. तुम्हारी प्रार्थना
4. तुम प्रार्थना

Question ID : 9895805541
Chosen Option : 3

Q.1 1 निम्नलिखित में से उस विकल्प का चयन करें जो 'दंग रह जाना' मुहावरे का अर्थ व्यक्त करता है।

- Ans 1. चकित हो जाना
2. बदल जाना
3. परेशान हो जाना
4. नाराज़ हो जाना

Question ID : 9895805557
Chosen Option : 1

Q.1 2 दिए गए शब्द के पर्यायवाची शब्द का चयन करें।

राष्ट्र

- Ans 1. धरती
2. देश
3. बाहर
4. संसार

Question ID : 9895805554
Chosen Option : 2

Q.1
3 सही वर्तनी वाले शब्द का चयन करें।

- Ans
- 1. रसोईघर
 - 2. रसोइघर
 - 3. रसोइघर
 - 4. रसोईघर

Question ID : 9895805560
Chosen Option : 1

Q.1
4 दिए गए वाक्य का वह भाग ज्ञात करें जिसमें कोई त्रुटि है।

वन प्रकृति की देन हैं, वे देश से सुंदरता में वृद्धि करते हैं।

- Ans
- 1. वृद्धि करते हैं।
 - 2. वन प्रकृति की देन हैं,
 - 3. सुंदरता में
 - 4. वे देश से

Question ID : 9895805536
Chosen Option : 1

Q.1
5 रिक्त स्थान को भरने के लिए उपयुक्त शब्द का चयन करें।

बोलने के पहले _____ करो।

- Ans
- 1. खाया
 - 2. पिया
 - 3. सोया
 - 4. सोचा

Question ID : 9895805543
Chosen Option : 4

Q.1
6 सही वर्तनी वाले शब्द का चयन करें।

- Ans
- 1. वनवाश
 - 2. वनबास
 - 3. बनवास
 - 4. वनवास

Question ID : 9895805561
Chosen Option : 4

Comprehension:

निम्नलिखित गद्यांश के रिक्त स्थानों की पूर्ति गद्यांश के नीचे दिए गए प्रश्नों के अनुसार कीजिए -

संगीत के बारे में प्रायः जन साधारण की यह _____ (1) है कि यह मन बहलाने अथवा _____ (2) का साधन है, अथवा भजन-पूजन में कविताएँ एवं छंद आदि भगवान के गुणगान की वस्तुएँ हैं। वस्तुतः _____ (3) के और भी उपयोग हैं। यह _____ (4) ही नहीं, मूक पशु-पक्षियों तक की _____ (5) को प्रेरित करने में सक्षम है। मनुष्य समझदार होने के कारण और भी अधिक लाभान्वित होता है।

SubQuestion No : 17

Q.1
7 गद्यांश में संकेतित रिक्त स्थान (1) के लिए उपयुक्त

शब्द होगा -

- Ans
- 1. गायन
 - 2. धरती
 - 3. साधन
 - 4. मान्यता

Question ID : 9895805547
Chosen Option : 4

Comprehension:

निम्नलिखित गद्यांश के रिक्त स्थानों की पूर्ति गद्यांश के नीचे दिए गए प्रश्नों के अनुसार कीजिए -

संगीत के बारे में प्रायः जन साधारण की यह _____ (1) है कि यह मन बहलाने अथवा _____ (2) का साधन है, अथवा भजन-पूजन में कविताएँ एवं छंद आदि भगवान के गुणगान की वस्तुएँ हैं। वस्तुतः _____ (3) के और भी उपयोग हैं। यह _____ (4) ही नहीं, मूक पशु-पक्षियों तक की _____ (5) को प्रेरित करने में सक्षम है। मनुष्य समझदार होने के कारण और भी अधिक लाभान्वित होता है।

SubQuestion No : 18

Q.1
8 गद्यांश में संकेतित रिक्त स्थान (2) के लिए उपयुक्त

शब्द होगा -

- Ans
- 1. भरपूर
 - 2. मनोरंजन
 - 3. विश्व
 - 4. धरती

Question ID : 9895805548

Comprehension:

निम्नलिखित गद्यांश के रिक्त स्थानों की पूर्ति गद्यांश के नीचे दिए गए प्रश्नों के अनुसार कीजिए -

संगीत के बारे में प्रायः जन साधारण की यह _____ (1) है कि यह मन बहलाने अथवा _____ (2) का साधन है, अथवा भजन-पूजन में कविताएँ एवं छंद आदि भगवान के गुणगान की वस्तुएँ हैं। वस्तुतः _____ (3) के और भी उपयोग हैं। यह _____ (4) ही नहीं, मूक पशु-पक्षियों तक की _____ (5) को प्रेरित करने में सक्षम है। मनुष्य समझदार होने के कारण और भी अधिक लाभान्वित होता है।

SubQuestion No : 19

Q.1 गद्यांश में संकेतित रिक्त स्थान (3) के लिए उपयुक्त शब्द होगा -

- Ans
- 1. तबला
 - 2. पुस्तक
 - 3. मृदंग
 - 4. संगीत

Question ID : 9895805549

Chosen Option : 4

Comprehension:

निम्नलिखित गद्यांश के रिक्त स्थानों की पूर्ति गद्यांश के नीचे दिए गए प्रश्नों के अनुसार कीजिए -

संगीत के बारे में प्रायः जन साधारण की यह _____ (1) है कि यह मन बहलाने अथवा _____ (2) का साधन है, अथवा भजन-पूजन में कविताएँ एवं छंद आदि भगवान के गुणगान की वस्तुएँ हैं। वस्तुतः _____ (3) के और भी उपयोग हैं। यह _____ (4) ही नहीं, मूक पशु-पक्षियों तक की _____ (5) को प्रेरित करने में सक्षम है। मनुष्य समझदार होने के कारण और भी अधिक लाभान्वित होता है।

SubQuestion No : 20

Q.2 गद्यांश में संकेतित रिक्त स्थान (4) के लिए उपयुक्त शब्द होगा -

- Ans
- 1. पानी
 - 2. आकाश

3. मनुष्य

4. घृणा

Question ID : 9895805550

Chosen Option : 2

Comprehension:

निम्नलिखित गद्यांश के रिक्त स्थानों की पूर्ति गद्यांश के नीचे दिए गए प्रश्नों के अनुसार कीजिए -

संगीत के बारे में प्रायः जन साधारण की यह _____ (1) है कि यह मन बहलाने अथवा _____ (2) का साधन है, अथवा भजन-पूजन में कविताएँ एवं छंद आदि भगवान के गुणगान की वस्तुएँ हैं। वस्तुतः _____ (3) के और भी उपयोग हैं। यह _____ (4) ही नहीं, मूक पशु-पक्षियों तक की _____ (5) को प्रेरित करने में सक्षम है। मनुष्य समझदार होने के कारण और भी अधिक लाभान्वित होता है।

SubQuestion No : 21

Q.2
1 गद्यांश में संकेतित रिक्त स्थान (5) के लिए उपयुक्त शब्द होगा -

- Ans
- 1. स्वाद
 - 2. घ्राण
 - 3. रोग
 - 4. भावनाओं

Question ID : 9895805551

Chosen Option : 4

Q.2
2 दिए गए वाक्य में रेखांकित खंड को प्रतिस्थापित करने के लिए उपयुक्त विकल्प का चयन करें।

मिठाईयाँ लेकर विजय बाबू घर चला गया।

- Ans
- 1. घर गए चले।
 - 2. घर चली गयी।
 - 3. घर चले गए।
 - 4. घर चले गया।

Question ID : 9895805539

Chosen Option : 3

Q.2
3 दिए गए वाक्य का वह भाग ज्ञात करें जिसमें कोई त्रुटि है।

सब्जियाँ इतनी महँगी हैं कि उन्हें खरीदते हुए ग्राहक को सोचना पड़ना रहा है।

- Ans
- 1. ग्राहक को
 - 2. उन्हें खरीदते हुए

3. सोचना पड़ना रहा है।
4. सब्जियाँ इतनी महँगी हैं कि

Question ID : 9895805537
Chosen Option : 3

Q.2
4 रिक्त स्थान को भरने के लिए उपयुक्त शब्द का चयन करें।

जो करे वह _____।

- Ans 1. सोये
2. भरे
3. मरे
4. जागे

Question ID : 9895805544
Chosen Option : 2

Q.2
5 दिये गये वाक्यांश के लिए एक शब्द दीजिये।

जो कम बोलता हो

- Ans 1. वाचाल
2. मितभाषी
3. मूक
4. मितव्ययी

Question ID : 9895805558
Chosen Option : 3

Constable (GD) in CAPFs, NIA, SSF and Rifleman (GD) in Assam Rifles Examination, 2018

Roll No. :	
Registration No.	
Name :	
Exam Venue :	
Exam Time :	9:00 AM - 10:30 AM
Exam Date :	19/02/2019

Section : General Section

Q.1 चार शब्द दिए गए हैं, जिनमें से तीन किसी तरह से समान हैं, जबकि एक अलग है। विषम शब्द चुनें।

- Ans
- 1. आनंद
 - 2. भय
 - 3. शांत
 - 4. आक्रोश

Question ID : 9895803852
Chosen Option : 1

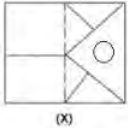
Q.2 उस विकल्प का चयन करें जो सही रूप में रिक्त स्थान को भरे और श्रृंखला को पूरा करें।

cab, gef, ljk, rpq, _____

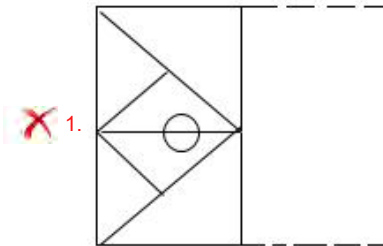
- Ans
- 1. ZXY
 - 2. WVU
 - 3. yxw
 - 4. ywx

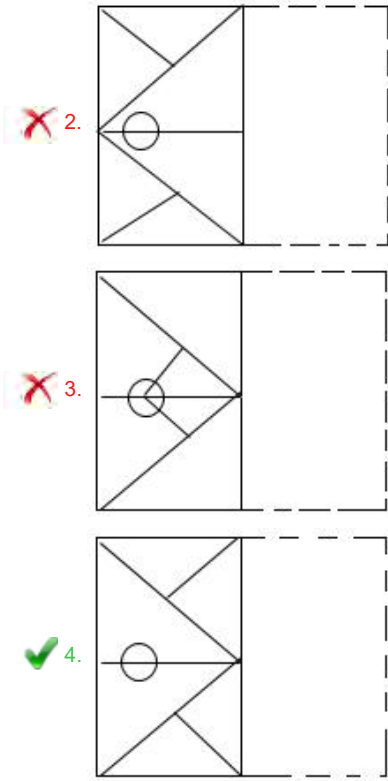
Question ID : 9895803850
Chosen Option : 3

Q.3 'X' से चिह्नित आयताकार पारदर्शी कागज का पैटर्न तब कैसा दिखेगा जब इस कागज को डॉट से बनाई गई रेखा पर मोड़ा जाएगा?



Ans





Question ID : 9895803873
Chosen Option : 1

Q.4 चार संख्याएँ दी गई हैं जिनमें से तीन संख्याएँ किसी न किसी रूप में समान हैं, जबकि एक संख्या भिन्न है। असंगत संख्या चुनिए।

- Ans
- 1. 42
 - 2. 55
 - 3. 84
 - 4. 91

Question ID : 9895803866
Chosen Option : 4

Q.5 नीचे दी गई आकृति की सही दर्पण छवि का चयन करें, अगर दर्पण को इस इस आकृति की दाईं ओर रखा जाए तो।



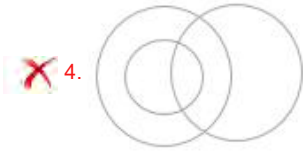
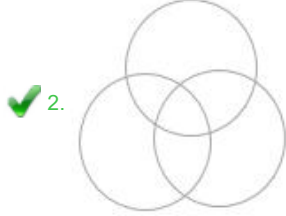
- Ans
- 1.
 - 2.
 - 3.
 - 4.

Question ID : 9895803871
Chosen Option : 2

Q.6 कौनसा वेन आरेख वर्गों के दिए गए समुच्चय को सर्वोत्तम रूप से प्रदर्शित करेगा?

शिक्षित, माताएँ और नियोजित

Ans



Question ID : 9895803874

Chosen Option : 2

Q.7 उस विकल्प का चयन करें जो सही रूप में रिक्त स्थान को भरे और श्रृंखला को पूरा करें।

2, 3, 4, 8, 16, 25, 52, _____

Ans

1. 79

2. 85

3. 68

4. 114

Question ID : 9895803863

Chosen Option : 1

Q.8 छह वस्तुओं P, Q, R, S, T और U में, Q, R से भारी है लेकिन T से हल्की है। S, T से हल्की है लेकिन U से भारी है। P, Q से हल्की है लेकिन S से भारी है। तो दूसरी सबसे भारी वस्तु कौन सी है?

Ans

1. S

2. T

3. P

4. Q

Question ID : 9895803860

Chosen Option : 2

Q.9 'सवेरा', 'संध्या' से उसी तरह संबंधित है जिस तरह 'उद्घाटन', _____ से संबंधित है।

Ans

1. आमंत्रण

2. बिदाई

3. समागम

4. निष्कर्ष

Question ID : 9895803853

Chosen Option : 1

Q.1 उस विकल्प का चयन करें जो तीसरे पद से उसी तरह संबंधित है, जिस तरह दूसरा पद पहले पद से संबंधित है।
0 BDFH : AFCL :: FHJL : ?

Ans 1. EJFO

2. EJGP

3. HFGN

4. EIGP

Question ID : 9895803855

Chosen Option : 2

Q.1 नीचे दिए गए कथनों के बाद दो निष्कर्ष I और II दिए गए हैं। यह मानते हुए कि कथनों में दी गई जानकारी सत्य है, भले ही वह सर्वज्ञात तथ्यों से भिन्न प्रतीत होती हो और यह निर्णय करें कि कौन सा / से निष्कर्ष तार्किक और निश्चित रूप से कथन में दी गई जानकारी का अनुसरण करता है / करते हैं।

कथन:

1. कुछ फूल सफेद हैं।

2. कुछ सफेद वस्तुएँ गोलाकार हैं।

निष्कर्ष:

I. कुछ फूल गोलाकार हैं।

II. हर गोलाकार वस्तु या तो सफेद है या वह एक फूल है।

Ans 1. निष्कर्ष I और निष्कर्ष II, दोनों अनुसरण करते हैं

2. केवल निष्कर्ष I अनुसरण करता है

3. न तो निष्कर्ष I और ना ही II अनुसरण करता है

4. केवल निष्कर्ष II अनुसरण करता है

Question ID : 9895803861

Chosen Option : 1

Q.1 असंगत युग्म का चयन करें।
2

Ans 1. 23-32

2. 12-21

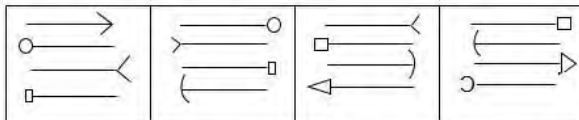
3. 17-52

4. 14-41

Question ID : 9895803865

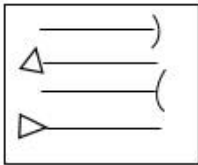
Chosen Option : 3

Q.1 विकल्पों में से उस आकृति का चयन करें जो दी गई श्रृंखला में अगले स्थान पर आएगी।
3

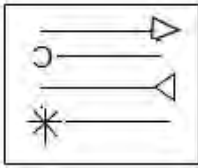


Ans

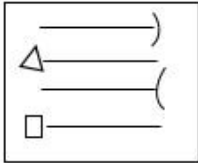
✓ 1.



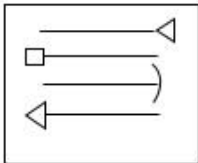
✗ 2.



✗ 3.



✗ 4.



Question ID : 9895803869
Chosen Option : 2

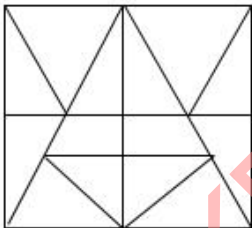
Q.1 विकल्पों में से उस आकृति का चयन करें जिसमें 'X' से चिह्नित आकृति समाहित है।



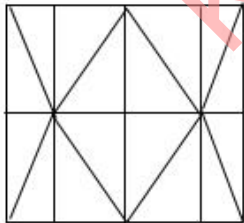
(X)

Ans

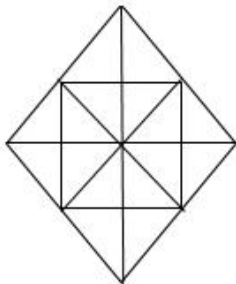
✗ 1.



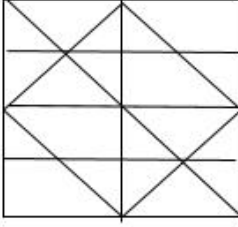
✓ 2.



✗ 3.



4.



Question ID : 9895803872
Chosen Option : 3

Q.1 नीचे दिए गए कथनों के बाद दो निष्कर्ष I और II दिए गए हैं। यह मानते हुए कि कथनों में दी गई जानकारी सत्य है, भले ही वह सर्वज्ञात तथ्यों से भिन्न प्रतीत होती हो और यह निर्णय करें कि कौन सा / से निष्कर्ष तार्किक और निश्चित रूप से कथन में दी गई जानकारी का अनुसरण करता है / करते हैं।

कथन:

1. कुछ आम फल हैं।
2. सभी फल मीठे होते हैं।

निष्कर्ष:

- I. कुछ मीठे पदार्थ आम होते हैं।
- II. सभी मीठे पदार्थ फल हैं।
- III. कुछ आम न तो फल हैं और ना ही मीठे हैं।

Ans

1. केवल निष्कर्ष II और III अनुसरण करते हैं
2. केवल निष्कर्ष I और III अनुसरण करते हैं
3. केवल निष्कर्ष I अनुसरण करता है
4. केवल निष्कर्ष I और II अनुसरण करते हैं

Question ID : 9895803862
Chosen Option : 1

Q.1 निम्नलिखित सेट की संख्याएँ एक खास प्रकार से आपस में संबंधित हैं। दिए गए विकल्पों में से उस सेट का चयन करें जो निम्नलिखित सेट के समान है।

{6, 10, 8}

Ans

1. {13, 17, 16}
2. {8, 12, 9}
3. {3, 6, 4}
4. {5, 13, 12}

Question ID : 9895803867
Chosen Option : 1

Q.1 एक कूट भाषा में, HEAD = 4158 और PASTE = 52019116 है, तो TRICK क्या होगा?

Ans

1. 11391820
2. 11391718
3. 31191820
4. 11932018

Question ID : 9895803857
Chosen Option : 3

Q.1 V, X, Y और Z ताश खेल रहे हैं। X, Y के बाएँ हैं और V, Z के दाएँ हैं। अगर X पश्चिम की ओर मुँह करके बैठा है तो V किस दिशा में मुँह करके बैठा है?

Ans

1. पूर्व
2. दक्षिण
3. उत्तर
4. पश्चिम

Question ID : 9895803858
Chosen Option : 2

Q.1
9 उस विकल्प का चयन करें जो सही रूप में रिक्त स्थान को भरे और श्रृंखला को पूरा करें।
2, 5, 7, 12, ?, 31, 50

- Ans 1. 25
2. 18
3. 21
4. 19

Question ID : 9895803864
Chosen Option : 3

Q.2
0 निम्न चार अक्षर समूहों में से कौन सा एक इस समूह का हिस्सा नहीं है?

- Ans 1. DWTG
2. BYWD
3. FUSG
4. CXWD

Question ID : 9895803851
Chosen Option : 1

Q.2
1 उस विकल्प का चयन करें जो तीसरे पद से उसी तरह संबंधित है, जिस तरह दूसरा पद पहले पद से संबंधित है।
यातना : कूरता :: क्षमाशीलता : ?

- Ans 1. माफी
2. उदारता
3. कृतज्ञता
4. विनम्रता

Question ID : 9895803854
Chosen Option : 1

Q.2
2 कौन से दो चिह्नों को अगर आपस में एक-दूसरे से बदल दिया जाएगा तो निम्नलिखित समीकरण सही हो जाएगा?
 $12 + 16 \div 8 \times 4 - 8 = 24$

- Ans 1. - और ÷
2. ÷ और ×
3. × और -
4. + और ×

Question ID : 9895803868
Chosen Option : 4

Q.2 अगर एक कूट भाषा में SYMPHONY को ZOPIQNZT के रूप में कूटबद्ध किया जाता है, तो THURSDAY को किस रूप में कूटबद्ध किया जाएगा?

- Ans
- 1. XZCRQTGS
 - 2. ZBETSIVU
 - 3. ZBETSVIU
 - 4. UIVSTEBZ

Question ID : 9895803856

Chosen Option : 3

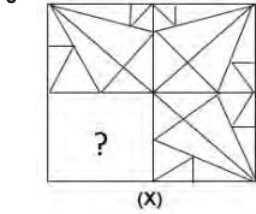
Q.2 छह घर A, B, C, D, E और F दो कतार में अवस्थित हैं। हर कतार में आमने-सामने 3-3 घर हैं। F, C के सामने है, जो कि E के बाएँ है। D, A की दाईं ओर है। तो किस घर का मुँह B की ओर है?

- Ans
- 1. E
 - 2. A
 - 3. C
 - 4. D

Question ID : 9895803859

Chosen Option : 3

Q.2 उस आकृति का चयन करें जिसे 'X' से चिह्नित रिक्त स्थान पर रखने से चित्र का पैटर्न पूर्ण हो जाएगा।



- Ans
- 1.
 - 2.
 - 3.
 - 4.

Question ID : 9895803870

Chosen Option : 3

Q.2 "दुनिया के मजदूर एकजुट हों" का नारा किससे संबंधित था?

- Ans
- 1. अमरीकी क्रांति
 - 2. जापानी क्रांति
 - 3. फ्रेंच क्रांति

✓ 4. रूसी क्रांति

Question ID : 9895805433
Chosen Option : 1

Q.2
7 आर.के. लक्ष्मण किस कला के लिए जाने जाते हैं?

- Ans
- ✗ 1. भित्ति-चित्र
 - ✗ 2. शास्त्रीय संगीत
 - ✗ 3. फ़िल्म
 - ✓ 4. कार्टून

Question ID : 9895805414
Chosen Option : 1

Q.2
8 बैंकों में जमा राशि के अधिकतर हिस्से का उपयोग किसलिए किया जाता है?

- Ans
- ✓ 1. ऋण
 - ✗ 2. संपाशिवेक
 - ✗ 3. गारंटी
 - ✗ 4. ब्याज

Question ID : 9895805417
Chosen Option : 1

Q.2
9 भारतीय राष्ट्रीय आंदोलन के संदर्भ में, 'सरहदी गांधी' के नाम से किसे जाना जाता था?

- Ans
- ✗ 1. मगफूर अहमद अजाजी
 - ✗ 2. अशाफाकुल्ला खान
 - ✓ 3. खान अब्दुल गफ्फार खान
 - ✗ 4. उधम सिंह

Question ID : 9895805431
Chosen Option : 3

Q.3
0 भारतीय संविधान में पहला संशोधन किस वर्ष किया गया था?

- Ans
- ✗ 1. 1950
 - ✓ 2. 1951
 - ✗ 3. 1947
 - ✗ 4. 1948

Question ID : 9895805421
Chosen Option : 1

Q.3
1 निम्नलिखित में से किस परिस्थिति में, भारत में स्वतंत्रता के मौलिक अधिकार को कम किया जाता है?

- Ans
- ✓ 1. राष्ट्रीय आपातकाल
 - ✗ 2. राज्य का आपातकाल

3. वित्तीय आपातकाल
4. महामारी आपातकाल

Question ID : 9895805422
Chosen Option : 4

Q.3
2 आईसीसी इमर्जिंग प्लेयर ऑफ द ईयर 2018 किसे प्रदान किया गया?

- Ans 1. ऋषभ पंत
2. के. एल. राहुल
3. हार्दिक पंड्या
4. शिखर धवन

Question ID : 9895805412
Chosen Option : 3

Q.3
3 नालंदा किस धर्म का प्राचीन शिक्षण संस्थान था?

- Ans 1. बौद्ध
2. इस्लाम
3. ईसाई
4. जैन

Question ID : 9895805411
Chosen Option : 1

Q.3
4 निम्नलिखित में से कौन सा श्रम गहन उद्योग है?

- Ans 1. गेहूँ
2. दलहन
3. मक्का
4. चाय

Question ID : 9895805428
Chosen Option : 2

Q.3
5 किसी राजकोषीय वर्ष में सरकार की सभी प्राप्तियों और व्यय का वार्षिक लेखा-जोखा क्या कहलाता है?

- Ans 1. बजट
2. राजस्व
3. पूँजी
4. कर

Question ID : 9895805418
Chosen Option : 1

Q.3
6 भारत में तृतीयक क्षेत्र के बढ़ते महत्व के संदर्भ में निम्नलिखित में से कौन सा कथन सही नहीं है?

- Ans 1. सेवा प्रदाता उद्योगों का विकास

- ✓ 2. ग्रामीण क्षेत्रों में राजनीतिक जागरूकता का विकास
- ✗ 3. प्रति व्यक्ति आय में वृद्धि
- ✗ 4. सूचना और प्रौद्योगिकी का विकास

Question ID : 9895805419
Chosen Option : 3

Q.3
7 निम्नलिखित में से कौन सी जोड़ी किसी राज्य और उससे संबंधित कला शैली को दर्शाती है?

- Ans
- ✗ 1. तमिलनाडु - ओडिसी
- ✓ 2. उत्तर प्रदेश - कथक
- ✗ 3. पंजाब - मोहिनीअट्टम
- ✗ 4. असम - कथकली

Question ID : 9895805409
Chosen Option : 1

Q.3
8 किस दिन को विश्व पर्यावरण दिवस के रूप में मनाया जाता है?

- Ans
- ✗ 1. 1 दिसंबर
- ✗ 2. 1 मई
- ✓ 3. 5 जून
- ✗ 4. 5 अगस्त

Question ID : 9895805426
Chosen Option : 1

Q.3
9 गिरमिटिया मज़दूर कौन होते हैं?

- Ans
- ✓ 1. वह बंधुआ मज़दूर, जो नए देश की यात्रा का भाड़ा चुकाने के लिए मज़दूरी करता है
- ✗ 2. बाज़ार से खरीदा गया श्रमिक
- ✗ 3. अवैतनिक मज़दूर
- ✗ 4. अफ्रीकी गुलाम

Question ID : 9895805432
Chosen Option : 2

Q.4
0 इनमें से किस सुप्रसिद्ध पार्श्व गायिका को भारत-रत्न पुरस्कार से सम्मानित किया गया है?

- Ans
- ✗ 1. शुभा मुद्गल
- ✓ 2. लता मंगेशकर
- ✗ 3. श्रेया घोषाल
- ✗ 4. आशा भोंसले

Question ID : 9895805415

Chosen Option : 2

Q.4
1 _____ पूर्वी पर्वत श्रृंखला के रूप में जानी जाती है।

- Ans
- 1. काराकोरम
 - 2. अरावली
 - 3. शिवालिक
 - 4. पटकाई पहाड़ियां

Question ID : 9895805429
Chosen Option : 2

Q.4
2 प्रकाश के उद्दीपन के कारण पौधों में होने वाली गति क्या कहलाती है?

- Ans
- 1. श्वसन
 - 2. गुरुत्वानुवर्तन
 - 3. प्रकाशानुवर्तन
 - 4. गुरुत्वीय अनुचलन

Question ID : 9895805425
Chosen Option : 1

Q.4
3 राष्ट्रीय स्क्वैश 2018 महिला एकल खिताब किसने जीता?

- Ans
- 1. भुवनेशकुमारी
 - 2. दीपिका पल्लीकल
 - 3. जोशना चिनप्पा
 - 4. उर्वशी जोशी

Question ID : 9895805413
Chosen Option : 3

Q.4
4 'मालगुदी डेज़' किसकी रचना है?

- Ans
- 1. शशि थरूर
 - 2. आर. के. नारायणन
 - 3. अमीष त्रिपाठी
 - 4. विक्रम सेठ

Question ID : 9895805416
Chosen Option : 2

Q.4
5 जब बल दो सतहों के बीच सापेक्ष गति का प्रतिरोध करता है, तो इसे _____ कहा जाता है।

- Ans
- 1. प्रतिरोध
 - 2. प्रेरण
 - 3. संवहन

✓ 4. घर्षण

Question ID : 9895805423
Chosen Option : 4

Q.4
6 भारत के संविधान में कितनी अनुसूचियाँ हैं?

- Ans
- ✗ 1. 13
 - ✓ 2. 12
 - ✗ 3. 11
 - ✗ 4. 14

Question ID : 9895805420
Chosen Option : 2

Q.4
7 यमुना नदी निम्नलिखित में से किस राज्य से नहीं गुज़रती है?

- Ans
- ✓ 1. गुजरात
 - ✗ 2. उत्तर प्रदेश
 - ✗ 3. उत्तराखंड
 - ✗ 4. हरियाणा

Question ID : 9895805430
Chosen Option : 4

Q.4
8 जलमिश्रित ऐसीटिक अम्ल आमतौर पर किस नाम से जाना जाता है?

- Ans
- ✗ 1. नीला विट्रियल
 - ✗ 2. फिटकरी
 - ✓ 3. सिरका
 - ✗ 4. ओलियम

Question ID : 9895805424
Chosen Option : 1

Q.4
9 किस प्रकार का सूक्ष्म जीव टाइफ़ाइड का कारण बनता है?

- Ans
- ✓ 1. जीवाणु
 - ✗ 2. प्रोटोज़ोआ
 - ✗ 3. कवक
 - ✗ 4. वाइरस

Question ID : 9895805427
Chosen Option : 4

Q.5
0 उस्ताद अमजद अली खान किस वाद्य-यंत्र के लिए जाने जाते हैं?

- Ans
- ✗ 1. वीणा
 - ✗ 2. तबला

✓ 3. सरोद

✗ 4. वायलिन

Question ID : 9895805410

Chosen Option : 2

Q.5 जब एक व्यक्ति 10 km/h की चाल से अपने घर से कार्यालय जाता है, तो उसे 20 मिनट की देरी होती है। जब वह 15 km/h की चाल से जाता है, तो उसे 5 मिनट की देरी होती है। उसके कार्यालय और घर के बीच की दूरी (km में) कितनी है?

Ans ✓ 1. 7.5

✗ 2. 8.5

✗ 3. 7

✗ 4. 8

Question ID : 9895805734

Chosen Option : 1

Q.5 यदि $(x + 4)$, $(x + 12)$, $(x - 1)$, और $(x + 5)$ समानुपात में हैं, तो x और $(x - 7)$ के बीच माध्य समानुपात है:

Ans ✗ 1. 9

✗ 2. 15

✗ 3. 16

✓ 4. 12

Question ID : 9895805725

Chosen Option : 4

Q.5 दी गई तालिका का अध्ययन करें और प्रश्न का उत्तर दें:

3

पांच भिन्न कंपनियों में कार्यरत कर्मचारियों की संख्या

कंपनी	कर्मचारियों की संख्या	पुरुषों और महिलाओं का अनुपात
A	380	13 : 6
B	420	4 : 3
C	360	8 : 7
D	320	11 : 9
E	280	3 : 5

कंपनी C में पुरुष कर्मचारियों की संख्या और कंपनी D में महिला कर्मचारियों की संख्या का अनुपात है:

Ans ✗ 1. 3 : 2

✓ 2. 4 : 3

✗ 3. 5 : 2

✗ 4. 8 : 9

Question ID : 9895805737

Chosen Option : 2

Q.5 दो संख्याएँ 3 : 5 के अनुपात में हैं, यदि प्रत्येक से 9 घटाया जाता है, तो प्राप्त संख्याएँ 12 : 23 के अनुपात में होती हैं। यदि छोटी संख्या में 3 जोड़ा जाता है और दूसरी संख्या से 7 घटाया जाता है, तो उनके बीच का अनुपात होगा:

4

- Ans
1. 5 : 8
2. 4 : 5
3. 5 : 6
4. 3 : 4

Question ID : 9895805724
Chosen Option : 4

Q.5 एक पार्क आयताकार आकार का है। इसकी लंबाई और चौड़ाई क्रमशः 240 मीटर और 100 मीटर है। पार्क के केंद्र में,
5 एक वृत्ताकार लॉन है। लॉन को छोड़कर, पार्क का क्षेत्रफल 3904 m^2 है।

लॉन की परिधि (मीटर में) क्या है? ($\pi = 3.14$ लें)

- Ans
1. 516.2
2. 512.8
3. 508.6
4. 502.4

Question ID : 9895805730
Chosen Option : 2

Q.5 ₹14460 की एक राशि को A, B, C और D के बीच इस प्रकार बांटा जाता है कि A और B के हिस्सों का अनुपात
6 3 : 5 हो, B और C के हिस्सों का अनुपात 6 : 7 हो तथा C और D के हिस्सों का अनुपात 14 : 15 हो।
A और C के हिस्सों का अंतर ज्ञात कीजिए?

- Ans
1. ₹1440
2. ₹2040
3. ₹1500
4. ₹2100

Question ID : 9895805726
Chosen Option : 1

Q.5 4 cm त्रिज्या वाले धातु के एक गोले को पिघलाया जाता है और प्रत्येक 0.4cm व्यास की छोटी छोटी गोलाकार गेंदों
7 के रूप में ढाला जाता है। बनने वाली छोटी गेंदों की संख्या होगी:

- Ans
1. 8000
2. 4000
3. 1000
4. 2000

Question ID : 9895805732
Chosen Option : 3

Q.5 तीन धनात्मक संख्याएं दी गई हैं। यदि उनमें से किन्हीं दो के औसत को तीसरी संख्या में जोड़ा जाता है, तो प्राप्त
8 योग 172, 216 और 180 हैं। दी गई तीनों संख्याओं का औसत क्या है?

- Ans
1. $94\frac{2}{3}$
2. $95\frac{1}{3}$
3. 96
4. 93

Question ID : 9895805719

Chosen Option : 4

Q.5 यदि एक ट्रेन की चाल में 10 km/hr की वृद्धि की जाती है, तो उसे 360 km की यात्रा करने में 3 घंटे कम समय लगता है। इसकी बड़ी हुई गति (किमी/घंटा में) क्या है?

- Ans
1. 36
2. 40
3. 30
4. 42

Question ID : 9895805733
Chosen Option : 2

Q.6 नीचे दिए गए आंकड़ों के परास, माध्यिका और बहुलक का माध्य क्या है?

1, 2, 5, 9, 6, 3, 9, 7, 4, 3, 9, 1, 9, 6, 8, 1

- Ans
1. 7
2. 8
3. $7\frac{1}{2}$
4. $8\frac{1}{2}$

Question ID : 9895805729
Chosen Option : 3

Q.6 एक पाइप 10 मिनट में एक टैंक को भर सकता है, जबकि दूसरा पाइप 12 मिनट में इसे खाली कर सकता है। यदि पाइपों को बारी-बारी से 1-1 मिनट के लिए खोला जाता है, तो पहले पाइप से शुरु करने पर, टैंक कितनी देर में (मिनट में) भर जाएगा?

- Ans
1. 108
2. 90
3. 120
4. 109

Question ID : 9895805736
Chosen Option : 1

Q.6 एक समूह में कुछ व्यक्तियों औसत ऊंचाई 155.5 cm है। बाद में, 154.6 cm, 158.4 cm, 152.2 cm और 153.8 cm ऊंचाई वाले 4 व्यक्ति समूह छोड़ देते हैं। परिणामस्वरूप शेष व्यक्तियों की औसत ऊंचाई 0.15 cm बढ़ जाती है। शुरु में समूह में व्यक्तियों की संख्या कितनी थी?

- Ans
1. 20
2. 24
3. 18
4. 22

Question ID : 9895805718
Chosen Option : 1

Q.6 $\left[\frac{5}{7} \text{ of } 1\frac{3}{8} - \frac{5}{8} \text{ of } \frac{6}{7} \right] \div \left[1 - \frac{1}{7} \times \left(\frac{5}{12} + \frac{1}{3} \right) \right] \times \frac{\frac{1}{7} - \frac{1}{9}}{\frac{1}{7} + \frac{1}{9}}$ का मान है:

Ans

- ✓ 1. $\frac{1}{16}$
- ✗ 2. 8
- ✗ 3. 4
- ✗ 4. $\frac{1}{4}$

Question ID : 9895805716

Chosen Option : 1

Q.6 16% वार्षिक ब्याज की दर से ₹15625 की राशि पर $2\frac{3}{4}$ वर्ष का चक्रवृद्धि ब्याज है, ब्याज की गणना वार्षिक चक्रवृद्धि आधार पर की जाती है:

- Ans ✗ 1. ₹6661
- ✗ 2. ₹5400
- ✗ 3. ₹7932
- ✓ 4. ₹7923

Question ID : 9895805728

Chosen Option : 2

Q.6 किसी वस्तु के अंकित मूल्य पर $12\frac{1}{2}$ % की छूट देने के बाद, इसे ₹700 में बेचा गया। यदि छूट नहीं दी गई होती, तो लाभ 60% होता। वस्तु का क्रय मूल्य है:

- Ans ✗ 1. ₹540
- ✗ 2. ₹600
- ✗ 3. ₹480
- ✓ 4. ₹500

Question ID : 9895805720

Chosen Option : 2

Q.6 उस सबसे छोटी संख्या के अंकों का योग क्या है, जिसे 21, 28, 30 और 35 से विभाजित करने पर प्रत्येक मामले में समान शेष 10 प्राप्त होता है, लेकिन 17 से विभाज्य है?

- Ans ✗ 1. 10
- ✓ 2. 13
- ✗ 3. 14
- ✗ 4. 11

Question ID : 9895805715

Chosen Option : 2

Q.6
7

दी गई तालिका का अध्ययन करें और प्रश्न का उत्तर दें:

पांच भिन्न कंपनियों में कार्यरत कर्मचारियों की संख्या

कंपनी	कर्मचारियों की संख्या	पुरुषों और महिलाओं का अनुपात
A	380	13 : 6
B	420	4 : 3
C	360	8 : 7
D	320	11 : 9
E	280	3 : 5

कंपनी E में महिला कर्मचारियों की संख्या, कंपनियों A और B के कुल पुरुष कर्मचारियों की संख्या के कितने प्रतिशत के बराबर है?

- Ans
1. 32
2. 30
3. 36
4. 35

Question ID : 9895805738
Chosen Option : 3

Q.6 रेणु अपनी आय का 30% बचत करती है। यदि उसकी बचत 30% बढ़ जाती है और व्यय 25% बढ़ जाता है, तो रेणु की आय में हुई प्रतिशत वृद्धि है:

- Ans
1. 15
2. 30
3. 25.8
4. 26.5

Question ID : 9895805723
Chosen Option : 3

Q.6 $1.25 - [1 \div \{3 + (2 - 0.4 \times 2.5)\}]$ का मान है:

- Ans
1. 0
2. 1
3. $\frac{1}{2}$
4. 2

Question ID : 9895805717
Chosen Option : 3

Q.7 35 आम बेचने पर प्राप्त प्राप्त लाभ 7 आमों के क्रय मूल्य के बराबर है। प्रतिशत लाभ ज्ञात कीजिए?

- Ans
1. 20
2. 25
3. $33\frac{1}{3}$
4. $16\frac{2}{3}$

Question ID : 9895805721

Chosen Option : 2

Q.7 2 पुरुष और 7 महिलाएं एक काम को 14 दिनों में कर सकती हैं, जबकि 3 पुरुष और 8 महिलाएं उसी काम को 11 दिनों में कर सकती हैं। 5 पुरुष और 4 महिलाएं उसी काम को कितने दिनों में कर लेंगी?

- Ans
- 1. 14
 - 2. 11
 - 3. 12
 - 4. 10

Question ID : 9895805735
Chosen Option : 2

Q.7 A और B दो शंकु हैं। A के वक्र-पृष्ठ का क्षेत्रफल B का 2 गुना है। B की तिर्यक ऊँचाई A की दोगुनी है। A और B की त्रिज्याओं का अनुपात क्या है?

- Ans
- 1. 1 : 4
 - 2. 2 : 1
 - 3. 3 : 2
 - 4. 4 : 1

Question ID : 9895805731
Chosen Option : 4

Q.7 किसी वस्तु का विक्रय मूल्य, उसके क्रय मूल्य का 84% है। यदि क्रय मूल्य में 20% की वृद्धि की जाती है और विक्रय मूल्य में 25% वृद्धि की जाती है, तो पहले की हानि के मुकाबले हानि में कितने प्रतिशत की वृद्धि/कमी हुई?

- Ans
- 1. $6\frac{1}{4}\%$, वृद्धि
 - 2. $6\frac{2}{3}\%$, वृद्धि
 - 3. $6\frac{2}{3}\%$, कमी
 - 4. $6\frac{1}{4}\%$, कमी

Question ID : 9895805722
Chosen Option : 3

Q.7 एक निश्चित राशि का 14% वार्षिक व्याज की दर से $3\frac{1}{4}$ वर्षों का साधारण व्याज ₹3731 है। पहले से आधी दर पर $5\frac{1}{2}$ वर्ष में उसी राशि का मिश्रधन कितना होगा?

- Ans
- 1. ₹11537
 - 2. ₹11913
 - 3. ₹11931
 - 4. ₹11357

Question ID : 9895805727
Chosen Option : 2

Q.7
5

दी गई तालिका का अध्ययन करें और प्रश्न का उत्तर दें:

पांच भिन्न कंपनियों में कार्यरत कर्मचारियों की संख्या

कंपनी	कर्मचारियों की संख्या	पुरुषों और महिलाओं का अनुपात
A	380	13 : 6
B	420	4 : 3
C	360	8 : 7
D	320	11 : 9
E	280	3 : 5

कंपनी C में महिला कर्मचारियों की संख्या, कंपनी E में पुरुष कर्मचारियों की संख्या से कितने प्रतिशत अधिक है?

- Ans 1. 60
 2. 48
 3. 55
 4. 54

Question ID : 9895805739
 Chosen Option : 3

Section : English Language

Q.1 Select the most appropriate option to fill in the blank.

_____ in Nagpur, we are unwilling to move to another city.

- Ans 1. Being that we are living
 2. Since we were living
 3. Since we have lived
 4. Since we have been living

Question ID : 9895805262
 Chosen Option : --

Q.2 Fill in the blank with the most appropriate option.

Suresh is _____ in collecting stamps.

- Ans 1. customary
 2. habitual
 3. interested
 4. habituated

Question ID : 9895805280
 Chosen Option : --

Q.3 Select the synonym of the given word.

ABILITY

- Ans 1. Disposition
 2. Instinct
 3. Capacity

4. Outlook

Question ID : 9895805270

Chosen Option : --

Q.4 From the given options, identify the segment in the sentence which contains the grammatical error.

The errors for the typed reports were so numerous that they could hardly be overlooked.

- Ans 1. so numerous
 2. could hardly be
 3. errors for
 4. typed reports

Question ID : 9895805257

Chosen Option : --

Q.5 Select the synonym of the given word.

CHARACTER

- Ans 1. Mannerism
 2. Spirit
 3. Performance
 4. Trait

Question ID : 9895805271

Chosen Option : --

Q.6 Select the most appropriate option to fill in the blank.

He has been _____ my birthday all week!

- Ans 1. celebrated
 2. celebrating
 3. celebrate
 4. celebrates

Question ID : 9895805263

Chosen Option : --

Q.7 Select the most appropriate option to substitute the underlined segment in the given sentence. If there is no need to substitute it, select No improvement.

Though a hero, he acted a coward.

- Ans 1. like a coward
 2. cowardly
 3. No improvement
 4. as coward

Question ID : 9895805259

Chosen Option : --

Q.8 Select the antonym of the given word.

TRANSPARENT

- Ans
- 1. Opaque
 - 2. Translucent
 - 3. Milky
 - 4. White-coloured

Question ID : 9895805272
Chosen Option : --

Q.9 Select the option that means the same as the given idiom.

In high spirits

- Ans
- 1. Feel joyful
 - 2. Become successful
 - 3. Remain calm
 - 4. Create confusion

Question ID : 9895805274
Chosen Option : --

Q.1 From the given options, identify the segment in the sentence which contains the grammatical error.

0

If the report did not have the information needed it could not be used by them.

- Ans
- 1. information needed
 - 2. be used by them
 - 3. it could not
 - 4. If the

Question ID : 9895805258
Chosen Option : --

Q.1 Select the correctly spelt word.

1

- Ans
- 1. Incourrigible
 - 2. Incorrigible
 - 3. Incorrigibel
 - 4. Incorigible

Question ID : 9895805279
Chosen Option : --

Q.1 Select the option that means the same as the given idiom.

2

Have several irons in the fire

- Ans
- 1. Having too many engagements at a time
 - 2. Burning unwanted pieces of iron
 - 3. Doing iron related work
 - 4. Talking to many persons simultaneously

Question ID : 9895805275

Chosen Option : --

Q.1 Fill in the blank with the most appropriate option.

3

Devika is the most _____ of them all and has managed to do well in her profession.

- Ans
- 1. insolent
 - 2. simple
 - 3. audacious
 - 4. intelligent

Question ID : 9895805281

Chosen Option : --

Q.1 From the given options, identify the segment in the sentence which contains the grammatical error.

4

Had you told me that you were in Mumbai I could have certainly contacted you instead of waiting here.

- Ans
- 1. you were
 - 2. instead of
 - 3. Had you
 - 4. could have

Question ID : 9895805256

Chosen Option : --

Q.1 Select the most appropriate option to substitute the underlined segment in the given sentence. If there is no need to substitute it, select No improvement.

5

He decided to leave very quickly the hotel.

- Ans
- 1. leave quickly the hotel.
 - 2. leave the hotel quickly.
 - 3. quickly leave hotel.
 - 4. No improvement

Question ID : 9895805260

Chosen Option : --

Q.1 Select the antonym of the given word.

6

VIRTUOUS

- Ans
- 1. Vicious
 - 2. Honest
 - 3. Worthy
 - 4. Kind

Question ID : 9895805273

Chosen Option : --

Q.1 Select the correctly spelt word.

7

- Ans
- 1. Contempory
 - 2. Contempary
 - 3. Contemporary

✓ 4. Comtemporary

Question ID : 9895805278

Chosen Option : --

Q.1 8 Select the most appropriate option to substitute the underlined segment in the given sentence. If there is no need to substitute it, select No improvement.

The rules of chess require that one has to makes only one move at a time.

- Ans
- 1. made
 - 2. will make
 - 3. No improvement
 - 4. has to make

Question ID : 9895805261

Chosen Option : --

Q.1 9 Select the word which means the same as the group of words given.

A person who is more than hundred years old

- Ans
- 1. Centenarian
 - 2. Centurial
 - 3. Centurion
 - 4. Centuriator

Question ID : 9895805276

Chosen Option : --

Q.2 0 Select the word which means the same as the group of words given.

One who loves mankind

- Ans
- 1. Philanthropist
 - 2. Humanist
 - 3. Philologist
 - 4. Philosopher

Question ID : 9895805277

Chosen Option : --

Comprehension:

In the following passage some words have been deleted. Fill in the blanks with the help of the alternatives given.

Fundamentally, all human beings possess a combination of fixed inherited traits. All individuals possess the (1) _____ highly developed nervous system, backbones, erect posture, hair, etc. Therefore, (2) _____ among human beings arise only in (3) _____ changes of this basic pattern. Racial differences (4) _____ one of the finest distinctions and are based only on (5) _____ slight differences.

SubQuestion No : 21

Q.2 1 Select the most appropriate option that will fill in the blank number 1.

- Ans
- 1. different

2. same
3. natural
4. large

Question ID : 9895805265
Chosen Option : --

Comprehension:

In the following passage some words have been deleted. Fill in the blanks with the help of the alternatives given.

Fundamentally, all human beings possess a combination of fixed inherited traits. All individuals possess the (1) _____ highly developed nervous system, backbones, erect posture, hair, etc. Therefore, (2) _____ among human beings arise only in (3) _____ changes of this basic pattern. Racial differences (4) _____ one of the finest distinctions and are based only on (5) _____ slight differences.

SubQuestion No : 22

Q.2
2 Select the most appropriate option that will fill in the blank number 2.

- Ans 1. variations
2. naturalness
3. sameness
4. similarities

Question ID : 9895805266
Chosen Option : --

Comprehension:

In the following passage some words have been deleted. Fill in the blanks with the help of the alternatives given.

Fundamentally, all human beings possess a combination of fixed inherited traits. All individuals possess the (1) _____ highly developed nervous system, backbones, erect posture, hair, etc. Therefore, (2) _____ among human beings arise only in (3) _____ changes of this basic pattern. Racial differences (4) _____ one of the finest distinctions and are based only on (5) _____ slight differences.

SubQuestion No : 23

Q.2
3 Select the most appropriate option that will fill in the blank number 3.

- Ans 1. minor
2. large
3. complete
4. fundamental

Question ID : 9895805267
Chosen Option : --

Comprehension:

In the following passage some words have been deleted. Fill in the blanks with the help of the alternatives given.

Fundamentally, all human beings possess a combination of fixed inherited traits. All individuals possess the (1) _____ highly developed nervous system, backbones, erect posture, hair, etc. Therefore, (2) _____ among human beings arise only in (3) _____ changes of this basic pattern. Racial differences (4) _____ one of the finest distinctions and are based only on (5) _____ slight differences.

SubQuestion No : 24

Q.2
4 Select the most appropriate option that will fill in the blank number 4.

- Ans
- 1. give
 - 2. represent
 - 3. show
 - 4. present

Question ID : 9895805268
Chosen Option : --

Comprehension:

In the following passage some words have been deleted. Fill in the blanks with the help of the alternatives given.

Fundamentally, all human beings possess a combination of fixed inherited traits. All individuals possess the (1) _____ highly developed nervous system, backbones, erect posture, hair, etc. Therefore, (2) _____ among human beings arise only in (3) _____ changes of this basic pattern. Racial differences (4) _____ one of the finest distinctions and are based only on (5) _____ slight differences.

SubQuestion No : 25

Q.2
5 Select the most appropriate option that will fill in the blank number 5.

- Ans
- 1. clear
 - 2. certain
 - 3. hidden
 - 4. possible

Question ID : 9895805269
Chosen Option : --

Section : Hindi Language

Q.1 दिए गए वाक्य का वह भाग ज्ञात करें जिसमें कोई त्रुटि है।

आदर्श विद्यार्थी के गुण सादा जीवन उच्च विचार होता है।

- Ans
- 1. सादा जीवन उच्च विचार
 - 2. होता है।
 - 3. के गुण
 - 4. आदर्श विद्यार्थी

Question ID : 9895805562
Chosen Option : 3

Q.2 रिक्त स्थान को भरने के लिए उपयुक्त शब्द का चयन करें।

स्वयंसेवकों का _____ प्रधानमंत्री से मिलने गया।

- Ans
- 1. भीड़
 - 2. दल
 - 3. टुकड़ी
 - 4. बल

Question ID : 9895805570
Chosen Option : 2

Q.3 दिए गए वाक्य में रेखांकित खंड को प्रतिस्थापित करने के लिए उपयुक्त विकल्प का चयन करें।

किसी की टोपी घर में छूट गई और किसी की चश्मा गिर गई।

- Ans
- 1. किसी का चश्मा गिर गए।
 - 2. किसी का चश्मा गिर गया।
 - 3. किसी का चश्मा गिर गई।
 - 4. किसी के चश्मे गिर गया।

Question ID : 9895805566
Chosen Option : 2

Q.4 दिए गए शब्द का विलोम चुनें।

आयात

- Ans
- 1. अर्थ
 - 2. निर्यात
 - 3. आयत
 - 4. बयान

Question ID : 9895805579
Chosen Option : 2

Q.5 दिए गए शब्द के पर्यायवाची शब्द का चयन करें।

वैर

- Ans
- 1. विद्वेष
 - 2. लड़ाई
 - 3. झगड़ा
 - 4. विद्रोह

Question ID : 9895805581
Chosen Option : 4

Q.6 दिए गए वाक्य में रेखांकित खंड को प्रतिस्थापित करने के लिए उपयुक्त विकल्प का चयन करें।

जो परिश्रम से मुँह मोड़ता है, तब जीवन में पिछड़ जाता है।

- Ans
- 1. अब जीवन में
 - 2. सब जीवन में
 - 3. वे जीवन में
 - 4. वह जीवन में

Question ID : 9895805565
Chosen Option : 3

Q.7 रिक्त स्थान को भरने के लिए उपयुक्त शब्द का चयन करें।

भारतीय सैनिकों ने युद्ध में _____ का परिचय दिया।

- Ans
- 1. मिठास
 - 2. खटास
 - 3. वीरता
 - 4. कायरता

Question ID : 9895805568
Chosen Option : 3

Q.8 सही वर्तनी वाले शब्द का चयन करें।

- Ans
- 1. प्रेमतुर
 - 2. प्रेमातूर
 - 3. परेमातुर
 - 4. प्रेमातुर

Question ID : 9895805587
Chosen Option : 1

Q.9 दिये गये वाक्यांश के लिए एक शब्द दीजिये।

जो बिना वेतन के कार्य करे

- Ans
- 1. अवैतनिक
 - 2. आधुनिक
 - 3. संवैतनिक
 - 4. सामूहिक

Question ID : 9895805584
Chosen Option : 1

Q.1
0

दिए गए वाक्य का वह भाग ज्ञात करें जिसमें कोई त्रुटि है।

कविता सुनने पर श्रोताओं को तालियों द्वारा कवि का अभिनंदन करने का मौका मिल जाती है।

Ans

- 1. श्रोताओं को तालियों द्वारा
- 2. मौका मिल जाती है।
- 3. कविता सुनने पर
- 4. कवि का अभिनंदन करने का

Question ID : 9895805564
Chosen Option : 2

Q.1 निम्नलिखित में से उस विकल्प का चयन करें जो 'दाल गलना' मुहावरे का अर्थ व्यक्त करता है।

Ans

- 1. युक्ति बनाना
- 2. युक्ति सफल होना
- 3. नुकसान होना
- 4. युक्ति असफल होना

Question ID : 9895805583
Chosen Option : 2

Q.1 सही वर्तनी वाले शब्द का चयन करें।

Ans

- 1. बाढ़पीडीत
- 2. बाढ़पिडित
- 3. बाढ़पीडित
- 4. बाढ़पिडित

Question ID : 9895805586
Chosen Option : 3

Q.1 दिए गए शब्द के पर्यायवाची शब्द का चयन करें।

गृह

Ans

- 1. वसन
- 2. निकेतन
- 3. कुटीर
- 4. गगन

Question ID : 9895805580
Chosen Option : 1

Q.1 रिक्त स्थान को भरने के लिए उपयुक्त शब्द का चयन करें।

हमें अपने _____ होने पर गर्व है।

- Ans 1. भारतीय
 2. चोर
 3. भिखारी
 4. भारती

Question ID : 9895805571
 Chosen Option : 1

Q.1
 5 दिये गये वाक्यांश के लिए एक शब्द दीजिये।

जो सप्ताह में एक बार होता हो

- Ans 1. मासिक
 2. साप्ताहिक
 3. पाक्षिक
 4. वार्षिक

Question ID : 9895805585
 Chosen Option : 2

Comprehension:

निम्नलिखित गद्यांश के रिक्त स्थानों की पूर्ति गद्यांश के नीचे दिए गए प्रश्नों के अनुसार कीजिए -

विश्व के लगभग सभी धर्म ग्रन्थों ने अहिंसा पालन पर बल दिया है। अहिंसा का सामान्य अर्थ है किसी भी _____ (1) को न मारना। परन्तु अहिंसा का अभिप्राय केवल शारीरिक हिंसा न करने तक ही सीमित नहीं है। मन से, वचन से तथा कर्म से किसी प्राणी को _____ (2) न पहुँचाना ही अहिंसा है। यदि हम किसी को _____ (3) नहीं दे सकते तो हमें किसी का जीवन लेने का अधिकार भी नहीं है। अहिंसा पालक व्यक्ति के संपर्क में आने वाले व्यक्ति भी सब प्रकार के ईर्ष्या-द्वेष आदि से _____ (4) हो जाते हैं। अहिंसा हमें _____ (5) नहीं बनाती अपितु शक्तिशाली बनाती है।

SubQuestion No : 16

Q.1
 6 गद्यांश में संकेतित रिक्त स्थान (1) के लिए उपयुक्त शब्द होगा -

- Ans 1. पेड़
 2. प्राणी
 3. स्त्री
 4. पुरुष

Question ID : 9895805573
Chosen Option : 2

Comprehension:

निम्नलिखित गद्यांश के रिक्त स्थानों की पूर्ति गद्यांश के नीचे दिए गए प्रश्नों के अनुसार कीजिए -

विश्व के लगभग सभी धर्म ग्रन्थों ने अहिंसा पालन पर बल दिया है। अहिंसा का सामान्य अर्थ है किसी भी _____ (1) को न मारना। परन्तु अहिंसा का अभिप्राय केवल शारीरिक हिंसा न करने तक ही सीमित नहीं है। मन से, वचन से तथा कर्म से किसी प्राणी को _____ (2) न पहुँचाना ही अहिंसा है। यदि हम किसी को _____ (3) नहीं दे सकते तो हमें किसी का जीवन लेने का अधिकार भी नहीं है। अहिंसा पालक व्यक्ति के संपर्क में आने वाले व्यक्ति भी सब प्रकार के ईर्ष्या-द्वेष आदि से _____ (4) हो जाते हैं। अहिंसा हमें _____ (5) नहीं बनाती अपितु शक्तिशाली बनाती है।

SubQuestion No : 17

Q.1
7 गद्यांश में संकेतित रिक्त स्थान (2) के लिए उपयुक्त शब्द होगा -

- Ans
- 1. हँसाना
 - 2. रुलाना
 - 3. प्रसन्नता
 - 4. कष्ट

Question ID : 9895805574
Chosen Option : 4

Comprehension:

निम्नलिखित गद्यांश के रिक्त स्थानों की पूर्ति गद्यांश के नीचे दिए गए प्रश्नों के अनुसार कीजिए -

विश्व के लगभग सभी धर्म ग्रन्थों ने अहिंसा पालन पर बल दिया है। अहिंसा का सामान्य अर्थ है किसी भी _____ (1) को न मारना। परन्तु अहिंसा का अभिप्राय केवल शारीरिक हिंसा न करने तक ही सीमित नहीं है। मन से, वचन से तथा कर्म से किसी प्राणी को _____ (2) न पहुँचाना ही अहिंसा है। यदि हम किसी को _____ (3) नहीं दे सकते तो हमें किसी का जीवन लेने का अधिकार भी नहीं है। अहिंसा पालक व्यक्ति के संपर्क में आने वाले व्यक्ति भी सब प्रकार के ईर्ष्या-द्वेष आदि से _____ (4) हो जाते हैं। अहिंसा हमें _____ (5) नहीं बनाती अपितु शक्तिशाली बनाती है।

SubQuestion No : 18

Q.1 गद्यांश में संकेतित रिक्त स्थान (3) के लिए उपयुक्त शब्द होगा -

- Ans
- 1. जीवन
 - 2. दुःख
 - 3. हिंसा
 - 4. मकान

Question ID : 9895805575
Chosen Option : 2

Comprehension:

निम्नलिखित गद्यांश के रिक्त स्थानों की पूर्ति गद्यांश के नीचे दिए गए प्रश्नों के अनुसार कीजिए -

विश्व के लगभग सभी धर्म ग्रन्थों ने अहिंसा पालन पर बल दिया है। अहिंसा का सामान्य अर्थ है किसी भी _____ (1) को न मारना। परन्तु अहिंसा का अभिप्राय केवल शारीरिक हिंसा न करने तक ही सीमित नहीं है। मन से, वचन से तथा कर्म से किसी प्राणी को _____ (2) न पहुँचाना ही अहिंसा है। यदि हम किसी को _____ (3) नहीं दे सकते तो हमें किसी का जीवन लेने का अधिकार भी नहीं है। अहिंसा पालक व्यक्ति के संपर्क में आने वाले व्यक्ति भी सब प्रकार के ईर्ष्या-द्वेष आदि से _____ (4) हो जाते हैं। अहिंसा हमें _____ (5) नहीं बनाती अपितु शक्तिशाली बनाती है।

SubQuestion No : 19

Q.1 गद्यांश में संकेतित रिक्त स्थान (4) के लिए उपयुक्त

शब्द होगा -

- Ans 1. मुक्त
 2. अधीन
 3. ग्रस्त
 4. युक्त

Question ID : 9895805576
 Chosen Option : 2

Comprehension:

निम्नलिखित गद्यांश के रिक्त स्थानों की पूर्ति गद्यांश के नीचे दिए गए प्रश्नों के अनुसार कीजिए -

विश्व के लगभग सभी धर्म ग्रन्थों ने अहिंसा पालन पर बल दिया है। अहिंसा का सामान्य अर्थ है किसी भी _____ (1) को न मारना। परन्तु अहिंसा का अभिप्राय केवल शारीरिक हिंसा न करने तक ही सीमित नहीं है। मन से, वचन से तथा कर्म से किसी प्राणी को _____ (2) न पहुँचाना ही अहिंसा है। यदि हम किसी को _____ (3) नहीं दे सकते तो हमें किसी का जीवन लेने का अधिकार भी नहीं है। अहिंसा पालक व्यक्ति के संपर्क में आने वाले व्यक्ति भी सब प्रकार के ईर्ष्या-द्वेष आदि से _____ (4) हो जाते हैं। अहिंसा हमें _____ (5) नहीं बनाती अपितु शक्तिशाली बनाती है।

SubQuestion No : 20

Q.2 गद्यांश में संकेतित रिक्त स्थान (5) के लिए उपयुक्त

शब्द होगा -

- Ans 1. कायर
 2. शक्तिशाली
 3. दोषी
 4. सपूत

Question ID : 9895805577
 Chosen Option : 4

Q.2 निम्नलिखित में से उस विकल्प का चयन करें जो 'गाँठ बाँधना' मुहावरे का अर्थ व्यक्त करता है।

- Ans 1. गाँठ दिखने पर स्मरण होना
 2. गाँठ में पैसे बाँधना
 3. भूल जाना
 4. अच्छी तरह याद रखना

Question ID : 9895805582
Chosen Option : 4

Q.2 दिए गए वाक्य का वह भाग ज्ञात करें जिसमें कोई त्रुटि है।

जिसके पास चरित्र होता है उसके सामने संसार भर का संपत्तियाँ घुटने टेक देती हैं।

- Ans
- 1. संसार भर का संपत्तियाँ
 - 2. जिसके पास चरित्र होता है
 - 3. घुटने टेक देती हैं।
 - 4. उसके सामने

Question ID : 9895805563
Chosen Option : 3

Q.2 रिक्त स्थान को भरने के लिए उपयुक्त शब्द का चयन करें।

देश को _____ से बचना चाहिए।

- Ans
- 1. अतिथियों
 - 2. जयचन्द्रों
 - 3. सज्जनों
 - 4. हरिश्चन्द्रों

Question ID : 9895805569
Chosen Option : 1

Q.2 दिए गए वाक्य में रेखांकित खंड को प्रतिस्थापित करने के लिए उपयुक्त विकल्प का चयन करें।

न्याय व्यवस्था कहती है कि जिसने अपराध किया है उसने दंड तो मिलेगा ही।

- Ans
- 1. उसे दंड तो मिलेगा ही।
 - 2. उसमें दंड तो मिलेगा ही।
 - 3. उससे दंड तो मिलेगा ही।
 - 4. उसी से दंड तो मिलेगा ही।

Question ID : 9895805567
Chosen Option : 1

Q.2 दिए गए शब्द का विलोम चुनें।

शाश्वत

- Ans
- 1. नश्वर
 - 2. अनादि
 - 3. अनंत
 - 4. चिरंतन

Question ID : 9895805578
Chosen Option : 1

KD Job Updates

Constable (GD) in CAPFs, NIA, SSF and Rifleman (GD) in Assam Rifles Examination, 2018

Roll No. :	
Registration No.	
Name :	
Exam Venue :	
Exam Time :	12:30 PM - 2:00 PM
Exam Date :	19/02/2019

Section : General Section

Q.1 अगर एक कूट भाषा में MONSTROUS को NOMRTSSUO के रूप में कूटबद्ध किया जाता है, तो SOCIOLOGY को किस तरह कूटबद्ध किया जाएगा?

- Ans 1. COSLOIYGO
 2. COSLOIGYO
 3. OCSOLIGYO
 4. YGOCOSLOI

Question ID : 9895803881
Chosen Option : 1

Q.2 असंगत का चयन करें।

- Ans 1. चक्रवात
 2. सुनामी
 3. बर्फीला तूफान
 4. विस्फोट

Question ID : 9895803877
Chosen Option : 4

Q.3

नीचे दिए गए कथनों के बाद दो निष्कर्ष । और ॥ दिए गए हैं । यह मानते हुए कि कथनों में दी गई जानकारी सत्य है, भले ही वह सर्वज्ञात तथ्यों से भिन्न प्रतीत होती हो, यह निर्णय करें कि कौन सा / से निष्कर्ष तार्किक और निश्चित रूप से कथन में दी गई जानकारी का अनुसरण करता है / करते हैं।

कथन:

1. कुछ धाराएँ नहर हैं।
2. कुछ नहरें नदी हैं।

निष्कर्ष:

- I. कुछ नहरें धाराएँ नहीं हैं।
- II. कुछ धाराएँ नदियाँ हैं।

Ans

1. केवल निष्कर्ष I अनुसरण करता है
2. केवल निष्कर्ष II अनुसरण करता है
3. न तो निष्कर्ष I और ना ही निष्कर्ष II अनुसरण करता है
4. दोनों निष्कर्ष I और II अनुसरण करते हैं

Question ID : 9895803886
Chosen Option : 3

Q.4 असंगत युग्म का चयन करें।

Ans

1. 3-6
2. 12-128
3. 7-42
4. 8-56

Question ID : 9895803890
Chosen Option : 2

Q.5 एक शाम, सूर्यास्त से पहले एक मैदान में महेश और विक्रांत एक-दूसरे की ओर पीठ करके खड़े हैं। अगर विक्रांत की छाया महेश के बिल्कुल दाएँ बनती है तो महेश किस दिशा की ओर मुँह किए हुए है?

Ans

1. पश्चिम
2. दक्षिण
3. पूर्व
4. उत्तर

Question ID : 9895803883
Chosen Option : 3

Q.6 उस विकल्प का चयन करें जो तीसरे पद से उसी तरह संबंधित है जिस तरह दूसरा पद पहले पद से संबंधित है।

GKNP : HJMQ :: DHKM : ?

Ans

1. EGJN

- 2. FHKO
- 3. EHKH
- 4. EILN

Question ID : 9895803880
Chosen Option : 1

Q.7 निम्न चार अक्षर समूहों में से कौन सा एक इस समूह का हिस्सा नहीं है?

- Ans
- 1. LORU
 - 2. HKMP
 - 3. BDFH
 - 4. TUVW

Question ID : 9895803876
Chosen Option : 3

Q.8 'सीतारा' (STAR) , 'तारक-पुंज' (GALAXY) से उसी तरह संबंधित है, जिस तरह 'शब्द' (WORD), _____ से संबंधित है।

- Ans
- 1. अभिव्यक्ति (EXPRESSION)
 - 2. संचार (COMMUNICATION)
 - 3. भाषा (LANGUAGE)
 - 4. वाक्य-विन्यास (SYNTAX)

Question ID : 9895803878
Chosen Option : 3

Q.9 चार लड़के A, B, C और D तथा चार लड़कियाँ E, F, G और H एक गोल मेज पर केंद्र की ओर मुखतिब होकर इस तरह बैठे हैं कि कोई भी दो लड़की एक साथ नहीं बैठी हैं। F, A और C के बीच में बैठी हैं, और इसका मुँह B की ओर है। E , G के दाईं ओर दूसरे नंबर पर बैठी है। B और H के बीच में दो व्यक्ति बैठे हैं जिनका मुँह E की ओर है।

C के दाईं ओर कौन बैठा/बैठी है?

- Ans
- 1. G
 - 2. E
 - 3. H
 - 4. F

Question ID : 9895803884
Chosen Option : 2

Q.1
0

नीचे दिए गए कथनों के बाद दो निष्कर्ष I और II दिए गए हैं। यह मानते हुए कि कथनों में दी गई जानकारी सत्य है, भले ही वह सर्वज्ञात तथ्यों से भिन्न प्रतीत होती हो, यह निर्णय करें कि कौन सा / से निष्कर्ष तार्किक और निश्चित रूप से कथन में दी गई जानकारी का अनुसरण करता है / करते हैं।

कथन:

1. कुछ शिक्षक प्रधानाचार्य हैं।
2. कुछ प्रधानाचार्य शिक्षित हैं।

निष्कर्ष:

- I. कुछ शिक्षक शिक्षित हैं।
- II. कोई भी शिक्षित व्यक्ति शिक्षक नहीं है।

Ans

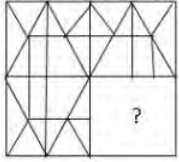
1. या तो निष्कर्ष I या निष्कर्ष II अनुसरण करता है
2. केवल निष्कर्ष II अनुसरण करता है
3. निष्कर्ष I और निष्कर्ष II, दोनों अनुसरण करते हैं
4. केवल निष्कर्ष I अनुसरण करता है

Question ID : 9895803887

Chosen Option : 1

Q.1 उस आकृति का चयन करें जिसे 'X' से चिह्नित रिक्त स्थान पर रखने से चित्र का पैटर्न पूर्ण हो जाएगा।

1



(X)

Ans

- 1.
- 2.
- 3.
- 4.

Question ID : 9895803895

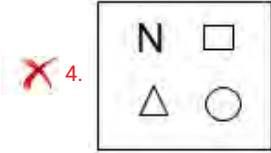
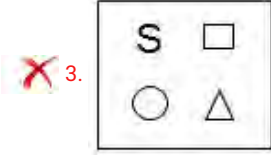
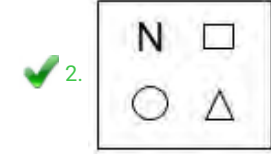
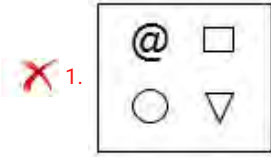
Chosen Option : 4

Q.1
2

विकल्पों में से उस आकृति का चयन करें जो दी गई श्रृंखला में अगले स्थान पर आएगी।

S	*	○	S	△	○	□	△
#	\$	\$	*	*	S	S	○

Ans



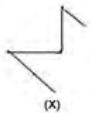
Question ID : 9895803894
Chosen Option : 2

Q.1 Q, T से दोगुना भारी है। R का वजन S से आधा है। P का वजन R से आधा है। अगर Q, P से तीन गुना ज्यादा भारी है, तो इन सब में सबसे भारी कौन है?

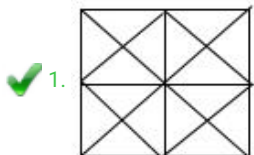
- Ans 1. P
 2. S
 3. Q
 4. R

Question ID : 9895803885
Chosen Option : 2

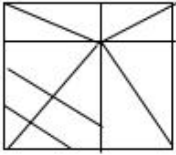
Q.1 विकल्पों में से उस आकृति का चयन करें जिसमें 'X' से चिह्नित आकृति समाहित है।



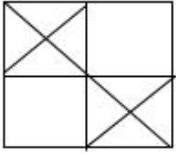
Ans



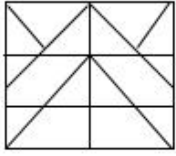
2.



3.

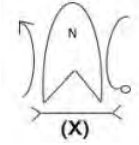


4.



Question ID : 9895803897
Chosen Option : 1

Q.1 5 उस विकल्प का चयन करें, जो दी गई आकृति के दर्पण छवि से तब पूरी तरह से मिलचा-जुलता है, जब दर्पण को दाईं ओर रखा जाता है।

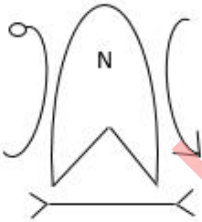


Ans

1.



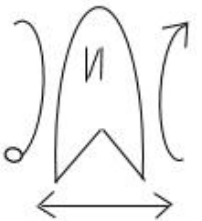
2.



3.

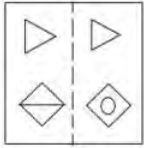


4.



Question ID : 9895803896
Chosen Option : 3

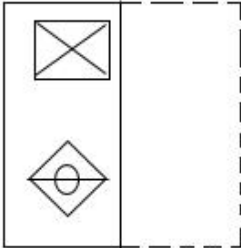
Q.1 'X' से चिह्नित आयताकार पारदर्शी शीट का पैटर्न तब कैसा दिखेगा जब इस शीट को डॉट से बनाई गई रेखा पर मोड़ा जाएगा?



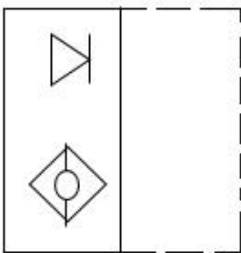
(X)

Ans

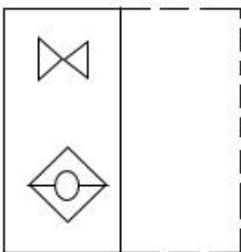
1.



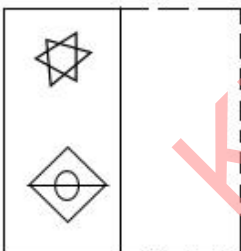
2.



3.



4.



Question ID : 9895803898
Chosen Option : 4

Q.1 उस विकल्प का चयन करें जो सही रूप में रिक्त स्थान को भरे और श्रृंखला को पूरा करें।

9, 23, 14, 32, 18, ____, 26

Ans 1. 47

2. 38

3. 40

4. 44

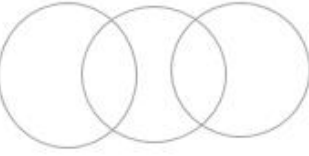
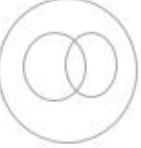
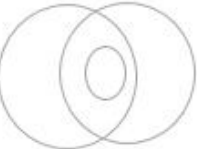

Q.1 अगर एक कूट भाषा में DISTANT = 9 और EARTH = 7 है, तो PSYCHOLOGY = क्या होगा?

- Ans
- 1. 12
 - 2. 10
 - 3. 14
 - 4. 11

Q.1 निम्नलिखित में से कौन सा वेन रेखाचित्र दिए गए वर्ग के बीच के संबंध को सही दर्शाता है?

छात्र, क्रिकेट प्रशंसक, टेनिस खिलाड़ी

Ans

- 1. 
- 2. 
- 3. 
- 4. 

Q.2 उस विकल्प का चयन करें जो सही रूप में रिक्त स्थान को भरे और श्रृंखला को पूरा करें।

21, 22, 18, 27, 11, _____

- Ans
- 1. 42
 - 2. 36
 - 3. 20
 - 4. 43

Question ID : 9895803888

Chosen Option : 3

Q.2 निम्नलिखित सेट की संख्याएँ एक खास प्रकार से आपस में संबंधित हैं। दिए गए विकल्पों में से उस सेट का चयन करें जो निम्नलिखित सेट के समान है।

{6, 13, 28}

- Ans
- 1. {4, 11, 25}
 - 2. {8, 14, 30}
 - 3. {9, 16, 34}
 - 4. {11, 17, 36}

Question ID : 9895803892

Chosen Option : 3

Q.2 कौन से दो चिहनों को अगर आपस में एक-दूसरे से बदल दिया जाएगा तो निम्नलिखित समीकरण सही हो जाएगा?

$$8 + 4 - 18 + 12 \times 6 = 16$$

- Ans
- 1. \div और $+$
 - 2. \times और $-$
 - 3. \times और \div
 - 4. $-$ और $+$

Question ID : 9895803893

Chosen Option : 3

Q.2 उस विकल्प का चयन करें जो सही रूप में रिक्त स्थान को भरे और श्रृंखला को पूरा करें।

bdf, hij, moq, uvw, ?

- Ans
- 1. yza
 - 2. bdf
 - 3. zbd
 - 4. yac

Question ID : 9895803875

Chosen Option : 4

Q.2 चार संख्याएँ दी गई हैं जिनमें से तीन संख्याएँ किसी न किसी रूप में समान हैं, जबकि एक संख्या भिन्न है। असंगत संख्या चुनिए।

- Ans
- 1. 732
 - 2. 543
 - 3. 651
 - 4. 452

Question ID : 9895803891

Q.2 उस विकल्प का चयन करें जो तीसरे पद से उसी तरह संबंधित है जिस तरह दूसरा पद पहले पद से संबंधित है।
5

भवन : ईंट :: कपड़ा : ?

Ans

- 1. सुई
- 2. धागा
- 3. दर्जी (टेलर्स)
- 4. परिधान

Question ID : 9895803879

Chosen Option : 2

Q.2 पैरामिसियम _____ के द्वारा प्रजनन करता है।
6

Ans

- 1. बडिंग
- 2. बीजाणु निर्माण
- 3. कायिक प्रजनन
- 4. द्विखंडन

Question ID : 9895805450

Chosen Option : 4

Q.2 वायुमंडल में ओजोन की कमी को _____ से जोड़ा गया है।
7

Ans

- 1. फिनोल- फार्मलिडहाइड
- 2. पोलिविनाइल क्लोराइड
- 3. क्लोरोफ्लोरोकार्बन
- 4. पॉलीटेट्राफ्लूरोएथिलीन

Question ID : 9895805451

Chosen Option : 3

Q.2 मकर संक्रांति के त्यौहार को भारत के किस हिस्से में उत्तरायण के रूप में जाना जाता है?
8

Ans

- 1. गुजरात
- 2. पश्चिम बंगाल
- 3. उत्तराखंड
- 4. केरल

Question ID : 9895805436

Chosen Option : 4

Q.2 निम्न में से किस पोषक तत्व की कमी से रिकेट्स नामक बीमारी होती है?

- Ans
- 1. विटामिन B
 - 2. विटामिन D
 - 3. विटामिन A
 - 4. लोहा

Question ID : 9895805452
Chosen Option : 2

Q.3 भारत में राज्यों के राज्यपालों की नियुक्ति करने का अधिकार किस के पास है?

- Ans
- 1. सुप्रीम कोर्ट के मुख्यन्यायाधीश
 - 2. प्रधानमंत्री
 - 3. मुख्यमंत्री
 - 4. राष्ट्रपति

Question ID : 9895805446
Chosen Option : 4

Q.3 रेगुर मिट्टी को _____ मिट्टी के नाम से भी जाना जाता है।

- Ans
- 1. पोटेश
 - 2. काली
 - 3. लोहा
 - 4. लाल

Question ID : 9895805454
Chosen Option : 2

Q.3 विधायी शक्तियों के विभाजन के अनुसार, भारत सरकार की प्राथमिक जिम्मेदारियों में से एक है:

- Ans
- 1. कृषि आय पर कर
 - 2. सार्वजनिक स्वास्थ्य और स्वच्छता
 - 3. रक्षा बलों को बनाए रखना
 - 4. सिनेमा हॉल का निर्माण

Question ID : 9895805442
Chosen Option : 2

Q.3 हरीप्रसाद चौरसिया _____ बजाने के लिए जाने जाते हैं।

- Ans
- 1. सितार

2. पखावज

3. बाँसुरी

4. तबला

Question ID : 9895805435

Chosen Option : 3

Q.3
4 कॉफी की अरेबिका किस्म निम्न में से किस राज्य में नहीं उगाई जाती है?

Ans 1. ओडिशा

2. केरल

3. तमिलनाडु

4. कर्नाटक

Question ID : 9895805455

Chosen Option : 3

Q.3
5 निम्नलिखित में से कौन-सा अधिकार उपभोक्ता संरक्षण से संबंधित नहीं है?

Ans 1. निवारण पाने का अधिकार

2. समानता का अधिकार

3. सूचित किए जाने का अधिकार

4. चुनने का अधिकार

Question ID : 9895805443

Chosen Option : 2

Q.3
6 भारत के सर्वोच्च न्यायालय की शक्ति के संदर्भ में, "न्यायिक समीक्षा" का क्या अर्थ है?

Ans 1.

यह भारत के प्रधान मंत्री को आपातकाल के समय सलाह देता है

2.

यह भारत के मुख्य न्यायाधीश की शक्तियों और कार्यों को परिभाषित करता है

3.

यह भारत की निचली अदालतों की शक्तियों को नियंत्रित करता है

4.

यह संसद द्वारा पारित किसी भी कानून की संवैधानिकता की जांच करता है

Question ID : 9895805447

Chosen Option : 4

Q.3
7 तमिलनाडु का 'जल्लीकट्टू' किस खेल से संबंधित है?

Ans

- 1. कुत्तों की लड़ाई
- 2. बिल्लियों से लड़ाई
- 3. मुर्गों की लड़ाई
- 4. बैलों से लड़ाई

Question ID : 9895805437
Chosen Option : 4

Q.3
8 सिंधु घाटी सभ्यता की 'डांसिंग गर्ल' की मूर्ति _____ में डाली गई थी।

- Ans
- 1. पीतल
 - 2. कांस्य
 - 3. तांबा
 - 4. लोहा

Question ID : 9895805456
Chosen Option : 3

Q.3
9 किस पूर्व प्रधानमंत्री ने 'चेजिंग इंडिया' पुस्तक लिखी है?

- Ans
- 1. राजीव गांधी
 - 2. पीवी नरसिम्हाराव
 - 3. अटल बिहारी वाजपेयी
 - 4. मनमोहन सिंह

Question ID : 9895805441
Chosen Option : 3

Q.4
0 मुगल बादशाह अकबर का मकबरा कहाँ स्थित है?

- Ans
- 1. अजमेर
 - 2. जौनपुर
 - 3. सिकन्दरा
 - 4. औरंगाबाद

Question ID : 9895805458
Chosen Option : 3

Q.4
1 उत्तर भारत में प्रचलित मंदिर वास्तुकला की शैली _____ है।

- Ans
- 1. नागर

- 2. वेसर
- 3. द्रविड़
- 4. शिखर

Question ID : 9895805457
Chosen Option : 1

Q.4
2 सुधीर धर _____ के लिए प्रसिद्ध हैं।

- Ans
- 1. संगीत
 - 2. फ़िल्म निर्माण
 - 3. लैंडस्केप ड्राइंग
 - 4. कार्टून ड्राइंग

Question ID : 9895805439
Chosen Option : 4

Q.4
3 निम्नलिखित में से कौन भारत की जीडीपी (GDP) की गणना के लिए उत्तरदायी है?

- Ans
- 1. सभी नगर-पालिकाएँ और पंचायतें
 - 2. केंद्र सरकार के मंत्रालय और राज्यों और केंद्र शासित प्रदेशों के विभिन्न सरकारी विभाग
 - 3. सभी राज्यसरकारें और केंद्र शासित प्रदेश
 - 4. केवल केंद्र सरकारी मंत्रालय

Question ID : 9895805444
Chosen Option : 3

Q.4
4 भारत रत्न पुरस्कार प्राप्त करने वाले पहले खिलाड़ी _____ हैं।

- Ans
- 1. प्रकाश पादुकोण
 - 2. सुनील गावस्कर
 - 3. सचिन तेंदुलकर
 - 4. सानिया मिर्जा

Question ID : 9895805440
Chosen Option : 3

Q.4
5 निम्नलिखित में से किस नदी में भारत की प्रायद्वीपीय नदी प्रणाली में सबसे बड़ा जलसंभर है?

- Ans
- 1. महानदी
 - 2. गोदावरी

3. कावेरी

4. कृष्णा

Question ID : 9895805453
Chosen Option : 2

Q.4
6 राज्यसभा के बारे में निम्नलिखित में से कौन सा कथन सही है?

Ans 1.

यह भारत के संविधान द्वारा निर्धारित एक सीधे निर्वाचित निकाय है

2.

राज्य विधानसभा के निर्वाचित सदस्य राज्यसभा के सदस्यों का चुनाव करते हैं

3. इसे संसद के निचले सदन के रूप में जाना जाता है

4. राज्यसभा के सदस्य स्थायी रूप से चुने जाते हैं

Question ID : 9895805445
Chosen Option : 1

Q.4
7 _____ वर्ष 2020, में ओलंपिक खेलों की मेजबानी करेगा।

Ans 1. जापान

2. इटली

3. स्पेन

4. चीन

Question ID : 9895805438
Chosen Option : 4

Q.4
8 दूध में निम्नलिखित में से कौन-सा अम्ल पाया जाता है?

Ans 1. हाइड्रोक्लोरिक अम्ल

2. लैक्टिक अम्ल

3. एस्कॉर्बिक अम्ल

4. टैनिक अम्ल

Question ID : 9895805449
Chosen Option : 2

Q.4
9 निम्नलिखित में से कौन-सा भारत का शास्त्रीय नृत्य नहीं है?

Ans 1. कथकली

2. भांगड़ा

3. ओड़िसी

✗ 4. मोहिनीअट्टम

Question ID : 9895805434
Chosen Option : 2

Q.5 निम्नलिखित में से किस मात्रा के लिए इकाई m/s^2 का उपयोग किया जाता है?

- Ans
- ✗ 1. वेग
 - ✗ 2. दूरी
 - ✗ 3. संवेग
 - ✓ 4. त्वरण

Question ID : 9895805448
Chosen Option : 4

Q.5 A और B की वर्तमान आयु का अनुपात 19 : 21 है। आठ वर्ष पहले उनकी आयु का क्रमशः अनुपात 15 : 17 था। यदि C की वर्तमान आयु A की वर्तमान आयु से 5 वर्ष कम है तो C की आयु कितनी है?

- Ans
- ✗ 1. 34 वर्ष
 - ✗ 2. 31 वर्ष
 - ✓ 3. 33 वर्ष
 - ✗ 4. 35 वर्ष

Question ID : 9895805751
Chosen Option : 3

Q.5 एक वस्तु को ₹ 1700 में बेचकर एक आदमी 15% नुकसान उठाता है। यदि वह उसे ₹ 2050 में बेचता है तो उस वस्तु पर उसे कितने प्रतिशत का लाभ या हानि होगी?

- Ans
- ✗ 1. हानि, $1\frac{1}{2}\%$
 - ✗ 2. लाभ, $1\frac{1}{2}\%$
 - ✓ 3. लाभ, $2\frac{1}{2}\%$
 - ✗ 4. हानि, $2\frac{1}{2}\%$

Question ID : 9895805747
Chosen Option : 3

Q.5 धातु गोले का अनुपात 9 cm है। इसे पिघला कर इससे खिंचकर 0.3 cm कातार बनाया जाता है, तो तार की लंबाई (m में) क्या है?

- Ans
- ✓ 1. 108
 - ✗ 2. 81

3. 162

4. 54

Question ID : 9895805756

Chosen Option : 1

Q.5 यदि एक शंकु का अनुपात, जब उसकी ऊंचाई में 50% की वृद्धि होती है तब, 20% कम होता है, तो इसकी आयतन में कितने प्रतिशत का परिवर्तन होगा?

Ans 1. 4% वृद्धि

2. 0.4% वृद्धि

3. 0.4% कमी

4. 4% कमी

Question ID : 9895805757

Chosen Option : 2

Q.5 एक दुकानदार किसी वस्तु के अंकित मूल्य पर 22% की छूट देता है और फिर भी 20% लाभ प्राप्त करता है। यदि वस्तु की लागत ₹ 520 है तो उसका अंकित मूल्य क्या है?

Ans 1. ₹ 800

2. ₹ 700

3. ₹ 750

4. ₹ 780

Question ID : 9895805745

Chosen Option : 1

Q.5 $6.25 + \frac{1}{9} \left[3.75 \div \left\{ \frac{5}{6} \text{ of } 0.4 \left(\frac{1}{3} - \frac{5}{6} + 0.75 \right) \right\} \right]$ का मान क्या है?

Ans 1. 10.75

2. 11.5

3. 10.5

4. 11.25

Question ID : 9895805742

Chosen Option : 4

Q.5 ₹ 45400 की राशि पर 15% के वार्षिक दर से $2\frac{2}{5}$ वर्ष के अंत में चक्रवृद्धि ब्याज क्या होगा, जब कि ब्याज वार्षिक रूप से संयोजित होता है? (एक रुपये के निकटतम)

Ans 1. ₹ 17644

2. ₹ 18549

3. ₹ 19646

✓ 4. ₹ 18244

Question ID : 9895805753
Chosen Option : 3

Q.5 A और B की क्षमता 5: 6 के अनुपात में हैं। साथ मिलकर कार्य करते हुए दोनों एक काम 120 दिनों में पूरा कर सकते हैं। B अकेला उस काम के 40% हिस्से को कितने दिनों में पूरा करेगा?

- Ans
- ✗ 1. 80 दिनों में
 - ✓ 2. 88 दिनों में
 - ✗ 3. 132 दिनों में
 - ✗ 4. 60 दिनों में

Question ID : 9895805761
Chosen Option : 2

Q.5 एक कक्षा में कुछ लड़कियों का औसत वजन 56.4 kg है। बाद में 53.2 kg, 54.6 kg, 52.8 kg और 54 kg वजन की चार लड़कियों ने कक्षा छोड़ दी। परिणामतः, कक्षा में शेष लड़कियों का औसत वजन 275g बढ़ जाता है तो शुरुआत में लड़कियों की संख्या कितनी थी?

- Ans
- ✓ 1. 44
 - ✗ 2. 36
 - ✗ 3. 40
 - ✗ 4. 48

Question ID : 9895805743
Chosen Option : 4

Q.6 एक कार 6 घंटे तक अलग-अलग गति से यात्रा करती है। पहले घंटे के लिए, यह 60 km/hr की गति से चलती है, अगले दो घंटे के लिए 54 km/hr गति से और शेष समय में x km/hr पर यात्रा करती है। यदि संपूर्ण यात्रा के लिए औसत गति 56.5 km/hr है, तो x का मान क्या है?

- Ans
- ✗ 1. 55.6
 - ✗ 2. 58
 - ✓ 3. 57
 - ✗ 4. 56.8

Question ID : 9895805759
Chosen Option : 2

Q.6 यदि 4.8, 6, x और 8.5 के अनुपात में हैं, तो x का मान क्या है?

- Ans
- ✗ 1. 9.6
 - ✗ 2. 16
 - ✓ 3. 6.8

4. 9

Question ID : 9895805750
Chosen Option : 3

Q.6 28 संख्याओं का औसत 35 है। पहली 15 संख्याओं का औसत 33 है और अंतिम 14 का 36.5 है। यदि 15वीं संख्या 2 को शामिल नहीं किया गया है, तो शेष संख्याओं का औसत क्या है?

- Ans
- 1. $34\frac{2}{3}$
 - 2. 34
 - 3. 33
 - 4. $35\frac{1}{3}$

Question ID : 9895805744
Chosen Option : 1

Q.6 3 निम्नलिखित तालिका का अध्ययन करे (जिसमें पांच वर्षों के दौरान एक कंपनी द्वारा बेची गई कारों की संख्या को दर्शाया गया है) और प्रश्न का उत्तर दे।

वर्ष	बेची गई कारों की संख्या	डीजल से पेट्रोल इंजन कारों का अनुपात डीजल : पेट्रोल
2012	330	5 : 6
2013	480	13 : 11
2014	510	8 : 9
2015	420	11 : 10
2016	630	17 : 18

2014 में कंपनी द्वारा बेची गई डीजल इंजन कारों की संख्या 2012 में बेची गई पेट्रोल इंजन कारों की तुलना में कितने प्रतिशत अधिक है?

- Ans
- 1. $33\frac{1}{3}\%$
 - 2. 25%
 - 3. 35%
 - 4. 40%

Question ID : 9895805763
Chosen Option : 1

Q.6

4 एक राशि 4% के वार्षिक दर के साधारण ब्याज से 5 वर्षों में ₹ 6240 होती है। तो उस राशि पर $5\frac{2}{5}$ वर्षों के लिए $7\frac{1}{2}\%$ की दर पर साधारण ब्याज क्या होगा?

- Ans
- 1. ₹ 2808
 - 2. ₹ 2008
 - 3. ₹ 2516
 - 4. ₹ 2106

Question ID : 9895805752
Chosen Option : 4

Q.6 5 एक गोलाकार लॉन का क्षेत्रफल 34 m, 20 m and 42 m की भुजाओं वाले त्रिकोणीय क्षेत्र के क्षेत्रफल के $1\frac{5}{6}$ गुना है। लॉन की परिधि (m में) क्या है? ($\pi=22/7$ लीजिए)

- Ans
- 1. 154
 - 2. 176
 - 3. 77
 - 4. 88

Question ID : 9895805755
Chosen Option : 4

Q.6 6 नीचे दिए गए डेटा का माध्यिका क्या है?

प्राप्तांक	18	15	17	32	20	28
छात्रों की संख्या	10	3	6	8	15	9

- Ans
- 1. 20
 - 2. 17
 - 3. 24
 - 4. 25

Question ID : 9895805754
Chosen Option : 2

Q.6 7 दो पाइप A और B क्रमशः 60 मिनट और 7 मिनट में एक टंकी भर सकते हैं। C एक आउटलेट (पानी बहार ले जानेवाला) पाइप है। जब सभी तीनों पाइप एक साथ खोले जाते हैं, तो टंकी 50 मिनट में भर जाती है। पाइप A और C को एक साथ 6 मिनट के लिए खोले जाते हैं और फिर बंद कर दिए जाते हैं। B अकेले टंकी के शेष भाग को कितनी देर में भरेगा?

- Ans
- 1. 72मिनट
 - 2. 63 मिनट
 - 3. 80मिनट
 - 4. 75मिनट

Question ID : 9895805760
Chosen Option : 3

Q.6 ₹ 12200 की राशि को A, B, C और D के बीच ऐसे विभाजित की जाती है ताकि A और B के हिस्सों का अनुपात 9 : 5 हो, B और C के हिस्सों का अनुपात 10 : 7 हो, D के हिस्से और B और C के संयुक्त हिस्सों का अनुपात 1 : 3 है। B का हिस्सा क्या है?

- Ans
- 1. ₹ 1700
 - 2. ₹ 5400
 - 3. ₹ 3000
 - 4. ₹ 2100

Question ID : 9895805749
Chosen Option : 2

Q.6 निम्नलिखित तालिका का अध्ययन करे (जिसमें पांच वर्षों के दौरान एक कंपनी द्वारा बेची गई कारों की संख्या को दर्शाया गया है) और प्रश्न का उत्तर दे।

वर्ष	बेची गई कारों की संख्या	डीजल से पेट्रोल इंजन कारों का अनुपात डीजल : पेट्रोल
2012	330	5 : 6
2013	480	13 : 11
2014	510	8 : 9
2015	420	11 : 10
2016	630	17 : 18

2016 में कंपनी द्वारा बेची गई पेट्रोल कारों की संख्या 2013 में बेची गई डीजल इंजन कारों की संख्या का कितना प्रतिशत है? (एक दशमलव स्थान पर सही)

- Ans
- 1. 85.8
 - 2. 60.4
 - 3. 75.6
 - 4. 80.2

Question ID : 9895805764
Chosen Option : 4

Q.7
0

कुछ सामान एक निश्चित राशि में खरीदे जाते हैं। यदि एक तिहाई सामान को 10% की हानि पर बेचा जाता है, तो इस पूरे लेन-देन पर 20% का लाभ अर्जित करने के लिए शेष सामान को कितने प्रतिशत लाभ पर बेचा जाना चाहिए?

- Ans
- 1. 40%
 - 2. 32%
 - 3. 30%
 - 4. 35%

Question ID : 9895805746
Chosen Option : 4

Q.7
1 $\left(\frac{1}{2} - \frac{1}{2} \times \frac{1}{2}\right) \div \left(\frac{1}{2} + \frac{1}{2} \text{ of } \frac{1}{2}\right) + \left(7\frac{3}{4} \text{ of } \frac{5}{31}\right) \div \left(15\frac{1}{3} \text{ of } \frac{2}{23} + \frac{1}{3}\right)$ का मान क्या है?

- Ans
- 1. $\frac{13}{12}$
 - 2. $\frac{4}{3}$
 - 3. $\frac{4}{9}$
 - 4. $\frac{1}{3}$

Question ID : 9895805741
Chosen Option : 3

Q.7
2 एक परीक्षा में, गणित में 66% और अंग्रेजी में 70% अभ्यर्थी उत्तीर्ण हुए। यदि 20% अभ्यर्थी दोनों विषयों में अनुत्तीर्ण हुए और 350 अभ्यर्थी दोनों विषयों में उत्तीर्ण हुए तो कितने अभ्यर्थी परीक्षा में बैठे थे?

- Ans
- 1. 680
 - 2. 700
 - 3. 600
 - 4. 625

Question ID : 9895805748
Chosen Option : 4

Q.7
3

निम्नलिखित तालिका का अध्ययन करे (जिसमें पांच वर्षों के दौरान एक कंपनी द्वारा बेची गई कारों की संख्या को दर्शाया गया है) और प्रश्न का उत्तर दे।

वर्ष	बेची गई कारों की संख्या	डीजल से पेट्रोल इंजन कारों का अनुपात डीजल : पेट्रोल
2012	330	5 : 6
2013	480	13 : 11
2014	510	8 : 9
2015	420	11 : 10
2016	630	17 : 18

2013 और 2015 में कंपनी द्वारा बेची गई डीजल इंजन कारों की कुल संख्या और 2012 और 2014 में बेची गई पेट्रोल इंजन कारों की कुल संख्या का अनुपात क्या है?

- Ans
- 1. 38 : 37
 - 2. 15 : 14
 - 3. 6 : 5
 - 4. 16 : 15

Question ID : 9895805762

Chosen Option : 4

Q.7 एक नाव एक घंटे में 4 km धारा-प्रतिकूल (अपस्ट्रीम) और 6 km धारा-अनुकूल (डाउनस्ट्रीम) जाती है, जबकि वह $6\frac{1}{2}$ घंटे में 36 km धारा-प्रतिकूल (अपस्ट्रीम) और 24 km धारा-अनुकूल (डाउनस्ट्रीम) जाती है जाती है। धारा-अनुकूल (डाउनस्ट्रीम) जाते समय नाव की गति km/hr में क्या है?

- Ans
- 1. 10
 - 2. 12
 - 3. 9
 - 4. 18

Question ID : 9895805758

Chosen Option : 2

Q.7 विभाजन विधि द्वारा दो संख्याओं के महत्तम समापवर्तक ज्ञात करने में, अंतिम भाजक 105 है और शुरु से अंत तक लगातार भागफल 1, 8 और 2 हैं। यदि दो संख्या के बीच का अंतर x है तो x के अंकों का योग क्या है?

- Ans
- 1. 3
 - 2. 5
 - 3. 6
 - 4. 7

Section : English Language

Comprehension:

In the following passage some words have been deleted. Fill in the blanks with the help of the alternatives given.

For generations man has (1) _____ against the wild to create a world where only he (2) _____ whether animals and plants survive or are (3) _____ out. Earlier, we accepted it as self-evident that any (4) _____ in our environment brought about by science and technology must be improvements (5) _____ the world of our ancestors.

SubQuestion No : 1

Q.1 Select the most appropriate option that will fill in the blank number 1.

- Ans
- 1. stood
 - 2. faced
 - 3. survived
 - 4. challenged

Comprehension:

In the following passage some words have been deleted. Fill in the blanks with the help of the alternatives given.

For generations man has (1) _____ against the wild to create a world where only he (2) _____ whether animals and plants survive or are (3) _____ out. Earlier, we accepted it as self-evident that any (4) _____ in our environment brought about by science and technology must be improvements (5) _____ the world of our ancestors.

SubQuestion No : 2

Q.2 Select the most appropriate option that will fill in the blank number 2.

- Ans
- 1. decides
 - 2. thinks
 - 3. advises
 - 4. observes

Comprehension:

In the following passage some words have been deleted. Fill in the blanks with the help of the alternatives given.

For generations man has (1) _____ against the wild to create a world where only he (2) _____ whether animals and plants survive or are (3) _____ out. Earlier, we accepted it as self-evident that any (4) _____ in our environment brought about by science and technology must be improvements (5) _____ the world of our ancestors.

SubQuestion No : 3

Q.3 Select the most appropriate option that will fill in the blank number 3.

- Ans
- 1. taken
 - 2. thrown
 - 3. put
 - 4. wiped

Question ID : 9895805293
Chosen Option : --

Comprehension:

In the following passage some words have been deleted. Fill in the blanks with the help of the alternatives given.

For generations man has (1) _____ against the wild to create a world where only he (2) _____ whether animals and plants survive or are (3) _____ out. Earlier, we accepted it as self-evident that any (4) _____ in our environment brought about by science and technology must be improvements (5) _____ the world of our ancestors.

SubQuestion No : 4

Q.4 Select the most appropriate option that will fill in the blank number 4.

- Ans
- 1. differences
 - 2. replacements
 - 3. changes
 - 4. increments

Question ID : 9895805294
Chosen Option : --

Comprehension:

In the following passage some words have been deleted. Fill in the blanks with the help of the alternatives given.

For generations man has (1) _____ against the wild to create a world where only he (2) _____ whether animals and plants survive or are (3) _____ out. Earlier, we accepted it as self-evident that any (4) _____ in our environment brought about by science and technology must be improvements (5) _____ the world of our ancestors.

SubQuestion No : 5

Q.5 Select the most appropriate option that will fill in the blank number 5.

- Ans
- 1. for
 - 2. at
 - 3. over
 - 4. in

Question ID : 9895805295
Chosen Option : --

Q.6 Select the synonym of the given word.

EXTROVERT

- Ans
- 1. Talkative
 - 2. Reticent
 - 3. Reserved
 - 4. Introvert

Question ID : 9895805297
Chosen Option : --

Q.7 Select the word which means the same as the group of words given.

The study of ancient events and societies.

- Ans
- 1. Anthropology
 - 2. Archaeology
 - 3. Sociology
 - 4. History

Question ID : 9895805302
Chosen Option : --

Q.8 Select the word which means the same as the group of words given.

A geometrical figure with eight sides

- Ans
- 1. Octagon

- 2. Hexagon
- 3. Parallelogram
- 4. Pentagon

Question ID : 9895805303
Chosen Option : --

Q.9 Select the option that means the same as the given idiom.

Feeling under the weather

- Ans
- 1. To feel exactly like the weather
 - 2. To not feel well
 - 3. To not look good
 - 4. To feel like pleasing weather

Question ID : 9895805301
Chosen Option : --

Q.1 From the given options, identify the segment in the sentence which contains the grammatical error.

0

A community is liked a ship; everyone should be prepared to take the helm.

- Ans
- 1. take the helm
 - 2. should be
 - 3. A community
 - 4. liked a ship

Question ID : 9895805283
Chosen Option : --

Q.1 Select the correctly spelt word.

1

- Ans
- 1. Bureacracy
 - 2. Bureaucracy
 - 3. Burocracy
 - 4. Buraucracy

Question ID : 9895805304
Chosen Option : --

Q.1 Select the antonym of the given word.

2

ASCERTAIN

- Ans
- 1. Detect
 - 2. Observe
 - 3. Find out

4. Overlook

Question ID : 9895805299
Chosen Option : --

Q.1
3 Select the most appropriate option to fill in the blank.

Greatness is what _____ you honourable.

- Ans
- 1. makes
 - 2. will made
 - 3. had made
 - 4. is making

Question ID : 9895805288
Chosen Option : --

Q.1
4 From the given options, identify the segment in the sentence which contains the grammatical error.

You assertion that you were thoroughly ignorant of the consequences cannot be believed.

- Ans
- 1. cannot be
 - 2. You assertion
 - 3. ignorant of
 - 4. were thoroughly

Question ID : 9895805282
Chosen Option : --

Q.1
5 Select the most appropriate option to substitute the underlined segment in the given sentence. If there is no need to substitute it, select No improvement.

I want to learn Hindi from teacher.

- Ans
- 1. No improvement
 - 2. from the teacher
 - 3. from a Hindi teacher
 - 4. from any teacher

Question ID : 9895805285
Chosen Option : --

Q.1
6 Select the most appropriate option to substitute the underlined segment in the given sentence. If there is no need to substitute it, select No improvement.

You must be fully involved what you do.

- Ans
- 1. fully involved into
 - 2. fully involved in
 - 3. No improvement
 - 4. fully involved for

Q.1
7 Select the option that means the same as the given idiom.

Once in a blue moon

- Ans
- 1. Once in a month
 - 2. Infrequently
 - 3. Frequently
 - 4. Once in a fortnight

Q.1
8 Select the most appropriate option to substitute the underlined segment in the given sentence. If there is no need to substitute it, select No improvement.

He lost the paper with the plan of the building which I had prepared.

- Ans
- 1. the plain paper
 - 2. the plan paper
 - 3. No improvement
 - 4. a plan paper

Q.1
9 Select the most appropriate option to fill in the blank.

Noori praised him for having an _____ plan.

- Ans
- 1. intense
 - 2. excellent
 - 3. indefinite
 - 4. elementary

Q.2
0 From the given options, identify the segment in the sentence which contains the grammatical error.

All we could find out from his neighbours are that he has a job in a corporate company.

- Ans
- 1. in a corporate company
 - 2. are that
 - 3. could find out
 - 4. his neighbours

Chosen Option : --

Q.2
1 Select the synonym of the given word.

BAFFLE

- Ans
- 1. Discuss
 - 2. Confuse
 - 3. Convince
 - 4. Gossip

Question ID : 9895805296
Chosen Option : --

Q.2
2 Select the correctly spelt word.

- Ans
- 1. Encyclopediia
 - 2. Encyclopedia
 - 3. Incyclopedia
 - 4. Enciclopedia

Question ID : 9895805305
Chosen Option : --

Q.2
3 Select the most appropriate word to fill in the blank.

It is neither the size nor the length of life which makes a man _____.

- Ans
- 1. feeble
 - 2. inhuman
 - 3. heartless
 - 4. humble

Question ID : 9895805307
Chosen Option : --

Q.2
4 Select the most appropriate word to fill in the blank.

The same sciences which have led us away from nature are now _____ the miracle of creation.

- Ans
- 1. unfolding
 - 2. discussing about
 - 3. narrating
 - 4. arguing with

Question ID : 9895805306
Chosen Option : --

Q.2

5 Select the antonym of the given word.

NOMINATE

- Ans
- 1. Reject
 - 2. Depute
 - 3. Agreed
 - 4. Suggest

Question ID : 9895805298
Chosen Option : --

Section : Hindi Language

Q.1 दिए गए वाक्य में रेखांकित खंड को प्रतिस्थापित करने के लिए उपयुक्त विकल्प का चयन करें।

मोहन को काटकर सेब खिलाओ।

- Ans
- 1. सेबों मोहन को काटकर खिलाओ।
 - 2. मोहन से काटकर सेब खिलाओ।
 - 3. काटकर सेब को मोहन खिलाओ।
 - 4. मोहन को सेब काटकर खिलाओ।

Question ID : 9895805821
Chosen Option : 4

Q.2 सही वर्तनी वाले शब्द का चयन करें।

- Ans
- 1. आयुष्मान
 - 2. आयुषमान
 - 3. आयुशमान
 - 4. आयुश्मान

Question ID : 9895805841
Chosen Option : 1

Q.3 निम्नलिखित में से उस विकल्प का चयन करें जो 'गुड़ गोबर कर देना' मुहावरे का अर्थ व्यक्त करता है।

- Ans
- 1. गुड़ और गोबर को मिला देना
 - 2. गुड़ को गोबर में बदलना
 - 3. काम सुधार देना
 - 4. काम बिगाड़ देना

Question ID : 9895805836
Chosen Option : 4

Q.4 दिए गए शब्द के पर्यायवाची शब्द का चयन करें।

आदी

- Ans
- 1. अन्य
 - 2. और
 - 3. अभ्यस्त
 - 4. आदि

Question ID : 9895805834
Chosen Option : 3

Q.5 दिए गए वाक्य का वह भाग ज्ञात करें जिसमें कोई त्रुटि है।

परोपकार करने से मनुष्य का मन में शांति का अनुभव होता है।

- Ans
- 1. होता है।
 - 2. शांति का अनुभव
 - 3. परोपकार करने से
 - 4. मनुष्य का मन में

Question ID : 9895805817
Chosen Option : 4

Q.6 रिक्त स्थान को भरने के लिए उपयुक्त शब्द का चयन करें।

इस लड़की की लंबाई _____ है।

- Ans
- 1. चौड़ी
 - 2. पतली
 - 3. अधिक
 - 4. लंबी

Question ID : 9895805823
Chosen Option : 3

Q.7 निम्नलिखित में से उस विकल्प का चयन करें जो 'नमक मिर्च लगाना' मुहावरे का अर्थ व्यक्त करता है।

- Ans
- 1. उपहास करना
 - 2. अनुनय करना
 - 3. नमक और मिर्च लगाकर रखना
 - 4. बढ़ा-चढ़ा कर कहना

Question ID : 9895805837

Comprehension:

निम्नलिखित गद्यांश के रिक्त स्थानों की पूर्ति गद्यांश के नीचे दिए गए प्रश्नों के अनुसार कीजिए -

ईर्ष्या विवेक की विरोधी है। ईर्ष्या वह काली _____ (1) है जो समस्त भूमंडल में विषाक्त फुफकारें छोड़ती है। यह भ्रान्ति की गर्म हवा है जो शरीर के अंदर 'लू' की तरह चलती रहती है और मानसिक शक्तियों को झुलसा कर _____ (2) कर देती है। अतः दूसरों के सुख देखकर _____ (3) का अनुभव करना चाहिए। विदुर जी का मत है, जिनका हृदय द्वेष की _____ (4) में जलता है उन्हें रात में _____ (5) नहीं आती।

SubQuestion No : 8

Q.8 गद्यांश में संकेतित रिक्त स्थान (1) के लिए उपयुक्त शब्द होगा -

- Ans
- 1. बिल्ली
 - 2. शेरनी
 - 3. नागिन
 - 4. लोमड़ी

Question ID : 9895805827

Chosen Option : 3

Comprehension:

निम्नलिखित गद्यांश के रिक्त स्थानों की पूर्ति गद्यांश के नीचे दिए गए प्रश्नों के अनुसार कीजिए -

ईर्ष्या विवेक की विरोधी है। ईर्ष्या वह काली _____ (1) है जो समस्त भूमंडल में विषाक्त फुफकारें छोड़ती है। यह भ्रान्ति की गर्म हवा है जो शरीर के अंदर 'लू' की तरह चलती रहती है और मानसिक शक्तियों को झुलसा कर _____ (2) कर देती है। अतः दूसरों के सुख देखकर _____ (3) का अनुभव करना चाहिए। विदुर जी का मत है, जिनका हृदय द्वेष की _____ (4) में जलता है उन्हें रात में _____ (5) नहीं आती।

SubQuestion No : 9

Q.9 गद्यांश में संकेतित रिक्त स्थान (2) के लिए उपयुक्त

शब्द होगा -

- Ans
- 1. पानी
 - 2. राख
 - 3. मिठाई
 - 4. सब्जी

Question ID : 9895805828
Chosen Option : 2

Comprehension:

निम्नलिखित गद्यांश के रिक्त स्थानों की पूर्ति गद्यांश के नीचे दिए गए प्रश्नों के अनुसार कीजिए -

ईर्ष्या विवेक की विरोधी है। ईर्ष्या वह काली _____ (1) है जो समस्त भूमंडल में विषाक्त फुफकारें छोड़ती है। यह भ्रान्ति की गर्म हवा है जो शरीर के अंदर 'लू' की तरह चलती रहती है और मानसिक शक्तियों को झुलसा कर _____ (2) कर देती है। अतः दूसरों के सुख देखकर _____ (3) का अनुभव करना चाहिए। विदुर जी का मत है, जिनका हृदय द्वेष की _____ (4) में जलता है उन्हें रात में _____ (5) नहीं आती।

SubQuestion No : 10

Q.10 गद्यांश में संकेतित रिक्त स्थान (3) के लिए उपयुक्त

शब्द होगा -

- Ans
- 1. सुगंध
 - 2. प्रसन्नता
 - 3. पसीना
 - 4. दुर्गंध

Question ID : 9895805829
Chosen Option : 2

Comprehension:

निम्नलिखित गद्यांश के रिक्त स्थानों की पूर्ति गद्यांश के नीचे दिए गए प्रश्नों के अनुसार कीजिए -

ईर्ष्या विवेक की विरोधी है। ईर्ष्या वह काली _____ (1) है जो समस्त भूमंडल में विषाक्त फुफकारें छोड़ती है। यह भ्रान्ति की गर्म हवा है जो शरीर के अंदर 'लू' की तरह चलती रहती है और मानसिक शक्तियों को झुलसा कर _____ (2) कर देती है। अतः दूसरों के सुख देखकर _____ (3) का अनुभव करना चाहिए। विदुर जी का मत है, जिनका हृदय द्वेष की _____ (4) में जलता है उन्हें रात में _____ (5) नहीं आती।

SubQuestion No : 11

Q.1
1 गद्यांश में संकेतित रिक्त स्थान (4) के लिए उपयुक्त शब्द होगा -

- Ans
- 1. सब्जी
 - 2. आग
 - 3. पानी
 - 4. मिर्च

Question ID : 9895805830
Chosen Option : 2

Comprehension:

निम्नलिखित गद्यांश के रिक्त स्थानों की पूर्ति गद्यांश के नीचे दिए गए प्रश्नों के अनुसार कीजिए -

ईर्ष्या विवेक की विरोधी है। ईर्ष्या वह काली _____ (1) है जो समस्त भूमंडल में विषाक्त फुफकारें छोड़ती है। यह भ्रान्ति की गर्म हवा है जो शरीर के अंदर 'लू' की तरह चलती रहती है और मानसिक शक्तियों को झुलसा कर _____ (2) कर देती है। अतः दूसरों के सुख देखकर _____ (3) का अनुभव करना चाहिए। विदुर जी का मत है, जिनका हृदय द्वेष की _____ (4) में जलता है उन्हें रात में _____ (5) नहीं आती।

SubQuestion No : 12

Q.1
2 गद्यांश में संकेतित रिक्त स्थान (5) के लिए उपयुक्त शब्द होगा -

- Ans
- 1. सुगंध
 - 2. दुर्गंध
 - 3. नींद
 - 4. मिठाई

Question ID : 9895805831
Chosen Option : 3

Q.1
3 दिए गए वाक्य में रेखांकित खंड को प्रतिस्थापित करने के लिए उपयुक्त विकल्प का चयन करें।
मुंबई जैसे शहर में अच्छा मकान मिलने बहुत मुश्किल है।

- Ans
- 1. अच्छा मकान मिलना
 - 2. अच्छी मकान मिलना
 - 3. अच्छी मकानें मिलना
 - 4. अच्छे मकानों मिलना

Question ID : 9895805819
Chosen Option : 1

Q.1
4 रिक्त स्थान को भरने के लिए उपयुक्त शब्द का चयन करें।

कारखानों के धुएँ से वातावरण _____ हो रहा है।

- Ans
- 1. गन्दी
 - 2. दूषित
 - 3. साफ
 - 4. स्वच्छ

Question ID : 9895805825
Chosen Option : 2

Q.1
5 रिक्त स्थान को भरने के लिए उपयुक्त शब्द का चयन करें।

पेड़ में पानी डालो _____ वह सूख जाएगा।

- Ans
- 1. अन्यथा
 - 2. परंतु
 - 3. लेकिन
 - 4. किंतु

Question ID : 9895805822
Chosen Option : 1

Q.1
6 सही वर्तनी वाले शब्द का चयन करें।

- Ans
- 1. पिकदान
 - 2. पीकदन
 - 3. पीकदान
 - 4. पीकदाम

Question ID : 9895805840
Chosen Option : 3

Q.1
7 दिये गये वाक्यांश के लिए एक शब्द दीजिये।

जो वर्ष में एक बार होता हो

- Ans
- 1. साप्ताहिक
 - 2. वार्षिक
 - 3. दैनिक
 - 4. पाक्षिक

Question ID : 9895805839
Chosen Option : 2

Q.1
8 दिए गए वाक्य का वह भाग ज्ञात करें जिसमें कोई त्रुटि है।

बात तो तुमने ठीक कही है पर इतने रुपए कहाँ से आएगा।

- Ans
- 1. पर इतने रुपए
 - 2. बात तो तुमने
 - 3. कहाँ से आएगा।
 - 4. ठीक कही है

Question ID : 9895805816
Chosen Option : 3

Q.1
9 दिए गए शब्द के पर्यायवाची शब्द का चयन करें।

रुधिर

- Ans
- 1. विकार
 - 2. पय
 - 3. रक्त
 - 4. आधि

Q.2
0 रिक्त स्थान को भरने के लिए उपयुक्त शब्द का चयन करें।

चाकू से फल _____ दो।

- Ans
- 1. काट
 - 2. खिला
 - 3. धो
 - 4. फाड़

Q.2
1 दिए गए वाक्य में रेखांकित खंड को प्रतिस्थापित करने के लिए उपयुक्त विकल्प का चयन करें।

जब से वह अपने घर से आई है जब से वह कुछ बोल नहीं रही है।

- Ans
- 1. कब से वह
 - 2. जभी से वह
 - 3. तब से वह
 - 4. अब से वह

Q.2
2 दिये गये वाक्यांश के लिए एक शब्द दीजिये।

जो अधिक बोलता हो

- Ans
- 1. मितभाषी
 - 2. वाचाल
 - 3. अपव्ययी
 - 4. मितव्ययी

Q.2
3 दिए गए शब्द का विलोम चुनें।

निरामिष

- Ans
- 1. विष
 - 2. सामिष
 - 3. आवेश

4. अन्वेषण

Question ID : 9895805832
Chosen Option : 2

Q.2
4 दिए गए वाक्य का वह भाग ज्ञात करें जिसमें कोई त्रुटि है।

उस दृश्य को देखकर मेरा तो प्राण निकल गए।

- Ans
- 1. उस दृश्य
 - 2. मेरा तो प्राण
 - 3. को देखकर
 - 4. निकल गए।

Question ID : 9895805818
Chosen Option : 2

Q.2
5 दिए गए शब्द का विलोम चुनें।

गुप्त

- Ans
- 1. प्रकट
 - 2. प्रसार
 - 3. प्रच्छन्न
 - 4. गुप्तचर

Question ID : 9895805833
Chosen Option : 1

Constable (GD) In CAPFs, NIA, SSF and Rifleman (GD) In Assam Rifles Examination, 2018

Roll No. :	
Registration No.	
Name :	
Exam Venue :	
Exam Time :	9:00 AM - 10:30 AM
Exam Date :	22/02/2019

Section : **General Section**

Q1 निम्नलिखित श्रृंखला को पूरा करने के लिए सही विकल्प का चयन करें।

13, 35, 57, 79, 911, _____, 1315

- Ans
- 1. 1131
 - 2. 1113
 - 3. 1311
 - 4. 1011

Question ID : 9895806269
Chosen Option : 2

Q2 उस विकल्प का चयन करें जो, दर्पण के लंबवत रूप से रखे जाने पर, दिए गए शब्द की दर्पण छवि से सर्वाधिक निकट प्रतीत होता है।

FIGMENT

- Ans
- 1. TNEWGI
 - 2. TNEMGI
 - 3. TNEMGI
 - 4. TNEMGI

Question ID : 9895806278
Chosen Option : 2

Q3 निम्नलिखित समीकरण को सही करने के लिए आपस में अदला बदली करना जरूरी दो चिन्ह जात करें।

$$15 + 3 \times 7 - 11 \div 3 = 27$$

- Ans
- 1. + और -
 - 2. + और ×
 - 3. - और ÷
 - 4. + और ÷

Question ID : 9895806273
Chosen Option : 4

Q4 जिस तरह 'डॉक्टर' 'अस्पताल' से संबंधित है उसी तरह 'शिक्षक' '_____' से संबंधित है।

- Ans
- 1. विद्यार्थी
 - 2. विद्यालय
 - 3. प्राचार्य
 - 4. शिक्षण

Question ID : 9895806261
Chosen Option : 2

Q5 नंबर-जोड़ी की पहचान करें जो बाकी सब से अलग है।

- Ans
- 1. 79 - 97
 - 2. 39 - 93
 - 3. 91 - 99
 - 4. 45 - 54

Question ID : 9895806272
Chosen Option : 3

Q6 यदि $G = 7$ और $J = 10$, और $PEN = 35$, तब $VEHICLE =$ _____.

- Ans
- 1. 64
 - 2. 73
 - 3. 65
 - 4. 71

Question ID : 9895806262
Chosen Option : 1

Q7 एक पुस्तकालय में केवल एक शब्दकोष है, जिसका उपयोग 6 छात्र P, Q, R, S, T और U, एक-एक करके करेंगे। S, Q के बाद तुरंत उपयोग करेगा और P, T, R के तुरंत बाद और U से पहले उपयोग करेगा। U, Q के बाद शब्दकोष का उपयोग करेगा। पहले शब्दकोष का उपयोग कौन करेगा?

- Ans
- 1. Q
 - 2. S
 - 3. R
 - 4. P

Question ID : 9895806264
Chosen Option : 1

Q8 उस विकल्प का चयन करें जो सही रूप में रिक्त स्थान को भरे और श्रृंखला को पूरा करें।

aB, cDE, fGHI, jKLMN, _____.

- Ans
- 1. pQRST
 - 2. oPQRST
 - 3. pQRSTU
 - 4. oPQRS

Question ID : 9895806256
Chosen Option : 2

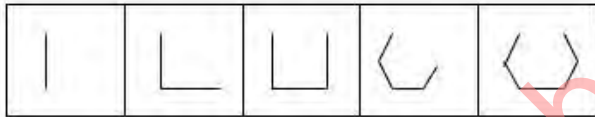
Q9 उस संख्या का चयन करें जो निम्न समूह से संबंधित नहीं है।


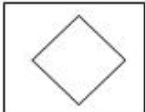
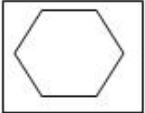
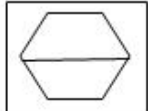
5, 9, 17, 33, 66, 129, 257

- Ans
- 1. 66
 - 2. 129
 - 3. 257
 - 4. 17

Question ID : 9895806270
Chosen Option : 1

Q10 उस आकृति का चयन करें जो निम्नलिखित श्रृंखला में अगली आएगी।



- Ans
- 1. 
 - 2. 
 - 3. 
 - 4. 

Question ID : 9895806275
Chosen Option : 3

Q11 यदि CRICKET को IRCCTEK के रूप में कूटबद्ध किया जाता है, तो PLAYERS को _____ के रूप में कूटबद्ध किया जाएगा?

- Ans
- 1. ALPYSER
 - 2. ALPYSRE

3. ALPYERS

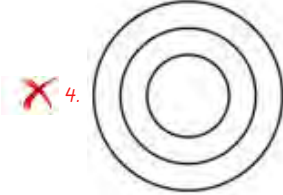

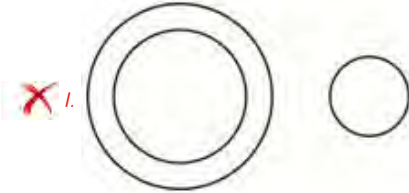
4. SREYALP

Question ID : 9895806263
Chosen Option : 2

Q12 उस वेन आरेख का चयन करें जो दिए गए वर्गों को सर्वोत्तम ढंग से दर्शाता है।

फुटबॉल, वॉलीबॉल, बास्केटबॉल

Ans

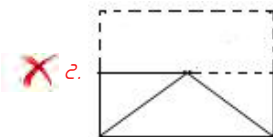
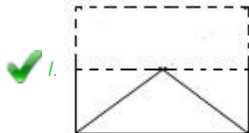


Question ID : 9895806260
Chosen Option : -

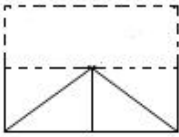
Q13 एक पैटर्न के साथ एक चौकोर पारदर्शी शीट दी गई है। बिंदीदार रेखा के साथ पारदर्शी शीट को मोड़ने पर पैटर्न कैसे दिखाई देगा?



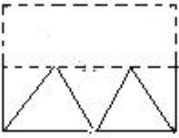
Ans



3.



4.



Question ID : 9895806279

Chosen Option : 1

Q14 नीचे दिए गए कथनों के बाद दो निष्कर्ष I और II दिए गए हैं। यह मानते हुए कि कथनों में दी गई जानकारी सत्य है, भले ही वह सर्वज्ञात तथ्यों से भिन्न प्रतीत होती हो और यह निर्णय करें कि कौन सा / से निष्कर्ष तार्किक और निश्चित रूप से कथन में दी गई जानकारी का अनुसरण करता है / करते हैं।

कथन:

- 1) सभी सेब आम हैं।
- 2) कोई भी आम सस्ता नहीं है।

निष्कर्ष:

- I. सभी आम सेब हैं।
- II. कोई भी सेब सस्ता नहीं है।

Ans

1. न तो निष्कर्ष I और न ही निष्कर्ष II अनुसरण करता है।
2. दोनों निष्कर्ष I और II अनुसरण करते हैं।
3. केवल निष्कर्ष II अनुसरण करता है।
4. केवल निष्कर्ष I अनुसरण करता है।

Question ID : 9895806267

Chosen Option : 3

Q15 निम्नलिखित संख्या श्रृंखला में, दो संख्याओं को कोष्ठक के भीतर रखा गया है। श्रृंखला का ध्यानपूर्वक अध्ययन करें और श्रृंखला के संबंध में सही विकल्प का चयन करें।

1, 11, 31, 61, (101), 151, 211, (281), 361

Ans

1. कोष्ठक में रखी गई दोनों संख्याएँ सही हैं।
2. पहली कोष्ठक संख्या (बाएं से) गलत है और दूसरी सही है।
3. पहली कोष्ठक संख्या (बाएं से) सही है और दूसरी गलत है।
4. कोष्ठक में रखी गई दोनों संख्याएँ गलत हैं।

Question ID : 9895806274

Chosen Option : 1

Q16 निम्नलिखित में से असंगत की पहचान करें।

Ans

1. AT

2. BV

3. GZ

4. DW

Question ID : 9895806258

Chosen Option : 4

Q17 एक बेंच पर चार छात्र बैठे हैं। बरथ, गुहान के बगल में बैठा है लेकिन राजेश के बगल में नहीं। यदि राजेश नरेन के बगल में नहीं बैठा है, तो नरेन से सटे सीटों पर कौन है?

Ans 1. बरथ

2. गुहान

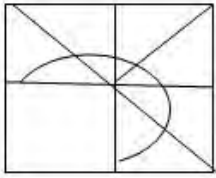
3. राजेश

4. बरथ और गुहान

Question ID : 9895806265

Chosen Option : 1

Q18 निम्नलिखित पैटर्न को पूरा करने के लिए सही विकल्प का चयन करें।

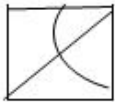


Ans

1.



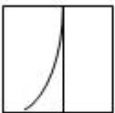
2.



3.



4.



Question ID : 9895806277

Chosen Option : 2

Q19

दिए गए कथनों और निष्कर्षों को ध्यानपूर्वक पढ़ें और तय करें कि कथनों में से कौन सा निष्कर्ष तार्किक रूप से अनुसरण करता है।

कथन:

एक अधिकारी श्री X, पर, दूसरे लोगों के एक समूह के साथ सॉफ्टवेयर कंपनी Z में भ्रष्टाचार के मामलों में शामिल होने का आरोप है।

निष्कर्ष:

- I. श्री X सॉफ्टवेयर कंपनी Z का एक भ्रष्ट अधिकारी हो सकते हैं।
- II. श्री X सॉफ्टवेयर कंपनी Z में भ्रष्टाचार के मामलों में शामिल नहीं हो सकते हैं।

Ans

1. या निष्कर्ष I या II अनुसरण करते हैं।
2. केवल निष्कर्ष I अनुसरण करता है।
3. दोनों निष्कर्ष I और II अनुसरण करते हैं।
4. केवल निष्कर्ष II अनुसरण करता है।

Question ID : 9895806268
Chosen Option : I

Q20 चार शब्द दिए गए हैं, जिनमें से तीन किसी तरह से समान हैं, जबकि एक अलग है। विषम शब्द चुनें।

Ans

1. विभिन्न
2. अलग करना
3. समान
4. भेद करना

Question ID : 9895806257
Chosen Option : 3

Q21 उस विकल्प का चयन करें जो तीसरी संख्या से उसी तरह से संबंधित है जैसे दूसरी संख्या पहली संख्या से संबंधित है।

12 : 134 :: 16 : ____?

Ans

1. 264
2. 265
3. 256
4. 246

Question ID : 9895806271
Chosen Option : 4

Q22 शब्दों के चार युग्म दिए गए हैं जिनमें से तीन युग्म किसी न किसी प्रकार से समान हैं, जबकि एक युग्म भिन्न है। असंगत युग्म का चयन करें।

Ans

1. गुड़ : गन्ना
2. धागा (यार्न) : तंतु (फाइबर)
3. आमलेट : भोजन
4. धातु : अयस्क

Q23 उस विकल्प का चयन करें जिसमें दी गई आकृति अंतर्निहित है।

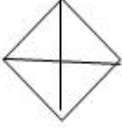


Ans

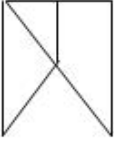
1.



2.



3.



4.



Q24 उस शब्द-युग्म का चयन करें जो दिए गए शब्द-युग्म के अनुरूप है।

बैरोमीटर : वायुदाब

Ans

1. घड़ी : समय

2. चाय : कप

3. विद्युत् धारा : ओडोमीटर

4. पानी : बोतल

Q25 एक पंक्ति में पांच अलग-अलग रंग के घर हैं -पीला, नीला, सफेद, गुलाबी और हरा। पीला घर नीले रंग के दाईं ओर है और हरा घर सफेद घर के बाईं ओर और पीले घर के दाईं ओर है। नीला गुलाबी के दाईं ओर है। कौन सा घर मध्य में है?

Ans

1. गुलाबी

2. पीला

3. नीला

4. हरा

Question ID : 9895806266

Chosen Option : 2

Q26 द्वितीय विश्व युद्ध में भारतीय सहयोग को सुरक्षित करने के लिए क्रिप्स मिशन किस वर्ष भारत में आया था?

- Ans
- 1. 1944
 - 2. 1943
 - 3. 1942
 - 4. 1941

Question ID : 9895806460

Chosen Option : 4

Q27 निम्न में से किस अवधारणा के अनुसार गरीबी को अन्य गरीब लोगों के साथ केवल निकृष्ट परिवेश में रहने वाले गरीबों के संदर्भ में देखा जाना चाहिए।

- Ans
- 1. सामाजिक पहचान
 - 2. सामाजिक बहिष्कार
 - 3. सामाजिक भेद
 - 4. सामाजिक वर्गीकरण

Question ID : 9895806464

Chosen Option : 1

Q28 नृत्य शैली 'डोलू कुनिथा' किस भारतीय राज्य से संबंधित है?

- Ans
- 1. झारखंड
 - 2. पश्चिम बंगाल
 - 3. केरल
 - 4. कर्नाटक

Question ID : 9895806456

Chosen Option : 4

Q29 संयुक्त राज्य अमेरिका में राज्यपाल के रूप में चुने जाने वाले पहले भारतीय अमेरिकी कौन हैं?

- Ans
- 1. विनोद खोसला
 - 2. बाँबी जिंदल
 - 3. पान नलिन
 - 4. रोहिंटन मिस्त्री

Question ID : 9895806463

Chosen Option : 2

Q30 न्यूनतम समर्थन मूल्य (MSP) तय करने की जिम्मेदारी किसकी है?

Ans 1. कृषि लागत और मूल्य आयोग (CACP)

2. भारतीय प्रतिस्पर्धा आयोग

3. भारतीय शिक्षा आयोग

4. भारत के विधि आयोग

Question ID : 9895806466

Chosen Option : 2

Q31 भारतीय मौसम विभाग (IMD) ने वर्षा से नदियों और जलाशयों में जल स्तर में वृद्धि के आकलन के लिए _____ नामक एक नई तकनीक विकसित की है।

Ans 1. अंतर्देशीय आधारित दृष्टिकोण

2. प्रभाव आधारित पूर्वानुमान दृष्टिकोण

3. पानी आधारित दृष्टिकोण

4. जलाशय आधारित पूर्वानुमान दृष्टिकोण

Question ID : 9895806475

Chosen Option : 3

Q32 फ्रांस और स्पेन की सीमा पर कौन सा पर्वत शिखर स्थित है?

Ans 1. मोंटे सिंटो पर्वत

2. पिरिनी पर्वत

3. जूरा पर्वत

4. ग्रैंड कैस पर्वत

Question ID : 9895806476

Chosen Option : 2

Q33 प्राचीन शहर 'लोथल', जो अब एक प्रमुख पुरातात्विक स्थल के रूप में प्रसिद्ध है, भारत के किस राज्य में स्थित है?

Ans 1. राजस्थान

2. महाराष्ट्र

3. पंजाब

4. गुजरात

Question ID : 9895806478

Chosen Option : 4

Q34 2018 तक किस राष्ट्र में सबसे अधिक व्यापार अधिशेष है?

Ans 1. जर्मनी

2. फ्रांस

3. डेनमार्क

4. ब्राज़िल

Question ID : 9895806465
Chosen Option : 3

Q.35 चाक का रासायनिक नाम क्या है?

Ans 1. सोडियम कार्बोनेट

2. कैल्शियम कार्बोनेट

3. हाइड्रोजन कार्बोनेट

4. मैग्नीशियम कार्बोनेट

Question ID : 9895806471
Chosen Option : 2

Q.36 2011 की जनगणना के अनुसार किस भारतीय राज्य में सबसे कम जनसंख्या घनत्व है?

Ans 1. मिजोरम

2. अरुणाचल प्रदेश

3. गोवा

4. सिक्किम

Question ID : 9895806477
Chosen Option : 2

Q.37 2019 में ICC क्रिकेट विश्व कप की मेजबानी करने वाला देश कौन सा है?

Ans 1. न्यूजीलैंड

2. ऑस्ट्रेलिया

3. इंग्लैंड और वेल्स

4. दक्षिण अफ्रीका

Question ID : 9895806460
Chosen Option : 3

Q.38 भारत में प्लस पोलियो प्रतिरक्षण कार्यक्रम कब शुरू किया गया?

Ans 1. 1991

2. 1995

3. 1993

4. 1997

Question ID : 9895806474

Q.39 भारत ने किस वर्ष में राष्ट्रमंडल खेलों की मेजबानी की?

- Ans
- 1. 2004
 - 2. 2008
 - 3. 2010
 - 4. 2006

Question ID : 9895806459
Chosen Option : 3

Q.40 'संगम साहित्य' किस भारतीय भाषा में लिखा गया है?

- Ans
- 1. संस्कृत
 - 2. कन्नड़
 - 3. तमिल
 - 4. तेलुगू

Question ID : 9895806479
Chosen Option : 3

Q.41 लोकप्रिय त्योहार 'चावोथ (Chavoth)' किस भारतीय राज्य से संबंधित है?

- Ans
- 1. हरियाणा
 - 2. गोवा
 - 3. तमिलनाडु
 - 4. गुजरात

Question ID : 9895806457
Chosen Option : 4

Q.42 निम्नलिखित में से कौन सा मांसाहारी पादप है?

- Ans
- 1. वीनस फ्लाईट्रैप
 - 2. क्वेकिंग एस्पेन
 - 3. रेड मेपल
 - 4. पेओनी

Question ID : 9895806472
Chosen Option : 3

Q.43 शस्त्र और गोला-बारूद रखने और उसके उपयोग को नियंत्रित करने वाला शस्त्र अधिनियम किस वर्ष में पारित हुआ था।

Ans

1. 1959
 2. 1942
 3. 1950
 4. 1947

Question ID : 9895806468
Chosen Option : 1

Q.44 निम्नलिखित में से किस भारतीय ने रेमन मैग्सेसे पुरस्कार 2018 जीता है?

- Ans 1. महाश्वेता देवी
 2. सोनम वांगचुक
 3. पालागुम्मी साईनाथ
 4. अरविंद केजरीवाल

Question ID : 9895806462
Chosen Option : 2

Q.45 निम्नलिखित में से किसे 2018 में भारत सरकार द्वारा यूनेस्को के कार्यकारी बोर्ड (EXB) के लिए नामित किया गया है?

- Ans 1. हरीश साल्वे
 2. जे.एस. राजपूत
 3. रुचिर खंबोज
 4. शशि थरूर

Question ID : 9895806461
Chosen Option : 2

Q.46 1950 में भारतीय संविधान द्वारा देश को शासित करने वाले मौलिक दस्तावेज के रूप में किस अधिनियम को प्रतिस्थापित किया गया था?

- Ans 1. विनियमन अधिनियम 1773
 2. भारत सरकार अधिनियम 1935 ई
 3. मॉर्ले-मिंटो अधिनियम
 4. भारतीय परिषद अधिनियम 1861

Question ID : 9895806467
Chosen Option : 2

Q.47 'ईएमई मंदिर', जिसे 'दक्षिणामूर्ति मंदिर' भी कहा जाता है, भारत के किस शहर में स्थित है?

- Ans 1. चेन्नई
 2. वडोदरा

3. जयपुर

4. पूना

Question ID : 9895806458

Chosen Option : 1

Q.48 LED शब्द का पूर्ण रूप क्या है जिसके आविष्कार के लिए आविष्कारकों को 2014 में नोबेल पुरस्कार मिला?

Ans 1. लाइट एक्सटेंशन डिवाइस (Light Extension Device)

2.

ल्युमिनस एक्सटेंशन डिवाइस (Luminous Extension Device)

3. लाइट एमिटिंग डायोड (Light Emitting Diode)

4.

ल्युमिनेंट एमिशन डिवाइस (Luminant Emission Device)

Question ID : 9895806470

Chosen Option : 1

Q.49 'फ्लोटिंग फुमदीस' भारत के किस राज्य में पाए जाते हैं?

Ans 1. केरल

2. जम्मू और कश्मीर

3. उत्तराखंड

4. मणिपुर

Question ID : 9895806473

Chosen Option : 2

Q.50 संविधान की 8 वीं अनुसूची, संविधान (बानबेनां संशोधन) अधिनियम, 2003 द्वारा यथा अद्यतन, में सूचीबद्ध भाषाओं की संख्या कितनी है?

Ans 1. 20

2. 18

3. 24

4. 22

Question ID : 9895806469

Chosen Option : 2

Q.51 एक दुकान में ₹ 3,500 अंकित मूल्य वाला एक कोट ₹ 2,800 में बेचा जाता है। कितने प्रतिशत की छूट दी गई है?

Ans 1. 15%

2. 20%

3. 25%

4. 18%

Question ID : 9895806363

Chosen Option : 2

Q52 240 और 320 को पूर्णतः विभाजित करने वाली सबसे बड़ी संख्या क्या है?

- Ans
- 1. 120
 - 2. 80
 - 3. 560
 - 4. 320

Question ID : 9895806356

Chosen Option : 2

Q53 एक समचतुर्भुज में विकर्ण क्रमशः 14 cm और 24 cm हैं। समचतुर्भुज का क्षेत्रफल क्या है?

- Ans
- 1. 442 cm²
 - 2. 380 cm²
 - 3. 336 cm²
 - 4. 168 cm²

Question ID : 9895806372

Chosen Option : 3

Q54 तीन संख्याओं का औसत 28 है। पहली संख्या दूसरी संख्या से आधी है और तीसरी संख्या दूसरी संख्या की दोगुनी है। तो तीसरी संख्या कौन सी है?

- Ans
- 1. 46
 - 2. 54
 - 3. 45
 - 4. 48

Question ID : 9895806360

Chosen Option : 4

Q55 अमित को अपनी मोटर साइकिल ₹ 24,000 में बेचने पर 20% की हानि हुई। उसे ₹ 35,000 में बेचने पर उसे कितने प्रतिशत लाभ होगा?

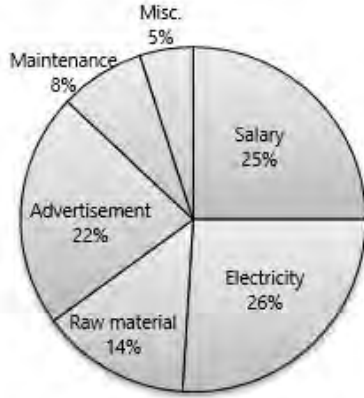
- Ans
- 1. 15%
 - 2. 18.26%
 - 3. 24.56%
 - 4. 16.67%

Question ID : 9895806361

Chosen Option : 4

Q56

आलेख का ठीक से अध्ययन करें और डेटा का अर्थ करके उत्तर दें।
कंपनी का कुल व्यय (खर्च) ₹ 35,50,000 है



कंपनी द्वारा वेतन पर खर्च की जाने वाली राशि क्या है?

- Ans 1. ₹ 8,87,500
 2. ₹ 4,32,500
 3. ₹ 9,25,500
 4. ₹ 12,750

Question ID : 9895806376
Chosen Option : 1

Q57 3, 6 और 18 का चौथा आनुपातिक _____ है।

- Ans 1. 36
 2. 24
 3. 72
 4. 12

Question ID : 9895806376
Chosen Option : 1

Q58 राम एक काम 5 दिनों में कर सकता है, जबकि हरि अकेले वह काम 6 दिनों में कर सकता है। यदि वे साथ मिलकर वह काम करते हैं तो उसे कितने दिनों में पूरा करेंगे?

- Ans 1. $\frac{20}{11}$ दिन
 2. $\frac{11}{20}$ दिन
 3. $\frac{11}{30}$ दिन
 4. $\frac{30}{11}$ दिन

Question ID : 9895806367
Chosen Option : 4

Q59 ₹ 600 में एक पुस्तक बेचने पर एक दुकानदार को 20% लाभ होता है। पुस्तक का क्रय मूल्य क्या है?

- Ans
- 1. ₹ 400
 - 2. ₹ 500
 - 3. ₹ 550
 - 4. ₹ 600

Question ID : 9895806362

Chosen Option : 2

Q60 एक ट्रेन 95 km/hr की दूरी तय करती है और 85 km/hr से प्रारंभिक बिंदु पर लौटती है। ट्रेन की औसत गति क्या है?

- Ans
- 1. 84.24 km/hr
 - 2. 75.56 km/hr
 - 3. 89.72 km/hr
 - 4. 92.29 km/hr

Question ID : 9895806369

Chosen Option : 3

Q61 2 वर्ष के लिए वार्षिक 5% के वार्षिक दर से ₹ 10,000 पर साधारण ब्याज और चक्रवृद्धि ब्याज के बीच कितना अंतर होगा?

- Ans
- 1. ₹ 100
 - 2. ₹ 250
 - 3. ₹ 25
 - 4. ₹ 50

Question ID : 9895806366

Chosen Option : 3

Q62 डेटा के वितरण में, उच्चतम स्कोर और निम्नतम स्कोर के बीच के अंतर को क्या कहा जाता है?

- Ans
- 1. माध्य
 - 2. श्रेणी
 - 3. माध्यिका
 - 4. बहुलक

Question ID : 9895806377

Chosen Option : 2

Q63 एक समबाहु त्रिभुज की भुजा $2\sqrt{3}$ cm की ऊंचाई क्या है?

- Ans
- 1. $\sqrt{3}$ cm
 - 2. $3\sqrt{3}$ cm
 - 3. 4 cm
 - 4. 3 cm

Question ID : 9895806373
Chosen Option : 4

Q64 यदि $(2x + 3y) : (2x - 3y) = 3 : 2$ तो $x : y$ _____ है।

- Ans
- 1. 6 : 7
 - 2. 3 : 14
 - 3. 15 : 2
 - 4. 2 : 3

Question ID : 9895806375
Chosen Option : 4

Q65 $(72 + 13) \div (3 + 2) - (3 \times 5)$ का मान क्या है?

- Ans
- 1. 6
 - 2. 2
 - 3. 8
 - 4. 4

Question ID : 9895806357
Chosen Option : 2

Q66 एक संख्या की $5\frac{3}{2}\%$ से वृद्धि करने से 52 देती है। संख्या क्या है?

- Ans
- 1. 750
 - 2. 576
 - 3. 800
 - 4. 672

Question ID : 9895806364
Chosen Option : 3

Q67 एक बैंक 5% प्रतिवर्ष के साधारण ब्याज दर से ऋण देता है। एक साल के लिए ₹ 50,000 का ऋण लेनेवाला एक ग्राहक कितना ब्याज बैंक को भुगतान करेगा?

- Ans
- 1. ₹ 2,500
 - 2. ₹ 5,000
 - 3. ₹ 7,500
 - 4. ₹ 25,000

Question ID : 9895806365
Chosen Option : 1

Q68 20 व्यक्तियों की औसत आय ₹ 4,000 है और दूसरे 25 व्यक्तियों की औसत आय ₹ 2,500 है। पूरे समूह की औसत आय क्या है?

- Ans
- 1. ₹ 3,166.66

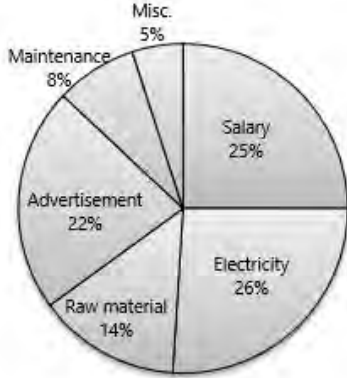
2. ₹ 2,400.25

3. ₹ 2,675.75

4. ₹ 2,900.65

Question ID : 9895806359
Chosen Option : 1

Q69 आलेख का ठीक से अध्ययन करें और डेटा का अर्थ करके उत्तर दें।
कंपनी का कुल व्यय (खर्च) ₹ 35,50,000 है



कंपनी द्वारा कच्चे माल और बिजली पर खर्च की गई राशि क्या है?

Ans 1. ₹ 16,24,000

2. ₹ 8,90,000

3. ₹ 20,14,000

4. ₹ 14,20,000

Question ID : 9895806379
Chosen Option : 4

Q70 यदि $a : b = 2 : 3$, $b : c = 5 : 7$ और $c : d = 9 : 8$; तो $a : b : c : d$ _____ है।

Ans 1. 18 : 36 : 45 : 63

2. 30 : 45 : 63 : 56

3. 45 : 63 : 65 : 30

4. 15 : 18 : 21 : 35

Question ID : 9895806374
Chosen Option : 2

Q71 एक आयताकार क्षेत्र में, एक बाजू 5 m है और विकर्ण 13 m है। आयत का क्षेत्र क्या है?

Ans 1. 60 m

2. 65 m²

3. 17 m²

✓ 4. 60 m²

Question ID : 9895806371

Chosen Option : 4

Q72 $4 + [(120 - 10) \div (3^2 + 1)] - 5$ का मान क्या है?

Ans ✗ 1. 14

✓ 2. 10

✗ 3. 12

✗ 4. 8

Question ID : 9895806358

Chosen Option : 2

Q73 दो पाइप क्रमशः 15 मिनट और 30 मिनट में एक टंकी भर सकते हैं। यदि दोनों पाइप एक साथ खोले जाते हैं, तो टंकी कितने समय में भर जाएगा?

Ans ✗ 1. 18 मिनट

✗ 2. 20 मिनट

✗ 3. 25 मिनट

✓ 4. 10 मिनट

Question ID : 9895806368

Chosen Option : 4

Q74 एक खिलाड़ी 20 सेकंड में अपनी साइकिल 150 मीटर चलाता है। खिलाड़ी की गति क्या है?

Ans ✗ 1. 18 km/hr

✗ 2. 22 km/hr

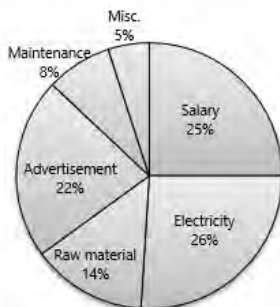
✗ 3. 25 km/hr

✓ 4. 27 km/hr

Question ID : 9895806370

Chosen Option : 4

Q75 आलेख का ठीक से अध्ययन करें और डेटा का अर्थ करके उत्तर दें।
कंपनी का कुल व्यय (खर्च) ₹ 35,50,000 है



क्रमशः विज्ञापन और रखरखाव पर कंपनी द्वारा खर्च की गई राशि का अनुपात क्या है?

- Ans 1. 4 : 11
 2. 6 : 5
 3. 11 : 4
 4. 5 : 6

Question ID : 9895806380
Chosen Option : 3

Section : English Language

Q1 From the given options, identify the segment in the sentence which contains the grammatical error.

The central library, with a large number of books in its stacks, attract students from almost every constituent college.

- Ans 1. almost every constituent college
 2. large number of books
 3. in its stacks
 4. attract students from

Question ID : 9895806128
Chosen Option : -

Q2 Select the most appropriate option to fill in the blank.

If you fail to _____ your authority properly, they will not obey you.

- Ans 1. detect
 2. identify
 3. exercise
 4. encounter

Question ID : 9895806135
Chosen Option : -

Q3 Select the correctly spelt word.

- Ans 1. Pilgrimege
 2. Piligrimage
 3. Pilgrimmage
 4. Pilgrimage

Question ID : 9895806151
Chosen Option : -

Q4 Select the most appropriate word to fill in the blank.

The suspect was taken to the police station, but he revealed nothing in the _____.

- Ans 1. complaint

- 2. assessment
- 3. evaluation
- 4. interrogation

Question ID : 9895806152
Chosen Option : -

Q5 Select the antonym of the given word.

CONFRONT

- Ans
- 1. Avoid
 - 2. Oppose
 - 3. Encounter
 - 4. Invite

Question ID : 9895806145
Chosen Option : -

Q6 Select the option that means the same as the given idiom.

An account which is in the red

- Ans
- 1. That which is operated without a cheque-book.
 - 2. That which is overdrawn
 - 3. That which has a loan approved
 - 4. That which is ready to be opened

Question ID : 9895806147
Chosen Option : -

Comprehension:

In the following passage some words have been deleted. Fill in the blanks with the help of the alternatives given.

A strong desire to travel _____ (1) the blue, to fly into the heavens and _____ (2) the stars was what Kalpana dreamt of. _____ (3) to the core, she finally succeeded _____ (4) making her vision a reality. For this first India-born female astronaut, her castles in the air had _____ (5) foundation firmly embedded in reality.

SubQuestion No : 7

Q7 Select the most appropriate option that will fill in the blank number 1.

- Ans
- 1. beyond
 - 2. under
 - 3. upto
 - 4. across

Comprehension:

In the following passage some words have been deleted. Fill in the blanks with the help of the alternatives given.

A strong desire to travel _____ (1) the blue, to fly into the heavens and _____ (2) the stars was what Kalpana dreamt of. _____ (3) to the core, she finally succeeded _____ (4) making her vision a reality. For this first India-born female astronaut, her castles in the air had _____ (5) foundation firmly embedded in reality.

SubQuestion No : 8

Q8 Select the most appropriate option that will fill in the blank number 2.

- Ans**
- 1. touch
 - 2. feel
 - 3. look
 - 4. watch

Comprehension:

In the following passage some words have been deleted. Fill in the blanks with the help of the alternatives given.

A strong desire to travel _____ (1) the blue, to fly into the heavens and _____ (2) the stars was what Kalpana dreamt of. _____ (3) to the core, she finally succeeded _____ (4) making her vision a reality. For this first India-born female astronaut, her castles in the air had _____ (5) foundation firmly embedded in reality.

SubQuestion No : 9

Q9 Select the most appropriate option that will fill in the blank number 3.

- Ans**
- 1. Defined
 - 2. Determined
 - 3. Defied
 - 4. Destined

Comprehension:

In the following passage some words have been deleted. Fill in the blanks with the help of the alternatives given.

A strong desire to travel _____ (1) the blue, to fly into the heavens and _____ (2) the stars was what Kalpana dreamt of. _____ (3) to the core, she finally succeeded _____ (4) making her vision a reality. For this first India-born female astronaut, her castles in the air had _____ (5) foundation firmly embedded in reality.

SubQuestion No : 10

Q10 Select the most appropriate option that will fill in the blank number 4.

- Ans**
- 1. on
 - 2. in
 - 3. into
 - 4. for

Question ID : 9895806140
Chosen Option : -

Comprehension:

In the following passage some words have been deleted. Fill in the blanks with the help of the alternatives given.

A strong desire to travel _____ (1) the blue, to fly into the heavens and _____ (2) the stars was what Kalpana dreamt of. _____ (3) to the core, she finally succeeded _____ (4) making her vision a reality. For this first India-born female astronaut, her castles in the air had _____ (5) foundation firmly embedded in reality.

SubQuestion No : 11

Q11 Select the most appropriate option that will fill in the blank number 5.

- Ans**
- 1. those
 - 2. there
 - 3. which
 - 4. their

Question ID : 9895806141
Chosen Option : -

Q12 Select the option that means the same as the given idiom.

A blue-eyed boy

- Ans**
- 1. One who is unpopular
 - 2. A boy with blue eyes
 - 3. An innocent boy

4. One who is a favourite

Question ID : 9895806146
Chosen Option : -

Q13 Select the word which means the same as the group of words given.

A person who suffers from an imaginary illness

- Ans
- 1. Paranoid
 - 2. Kleptomania
 - 3. Megalomania
 - 4. Hypochondriac

Question ID : 9895806148
Chosen Option : -

Q14 Select the synonym of the given word.

AISLE

- Ans
- 1. Porch
 - 2. Passage
 - 3. Lobby
 - 4. Verandah

Question ID : 9895806143
Chosen Option : -

Q15 Select the correctly spelt word.

- Ans
- 1. Disscipline
 - 2. Disipline
 - 3. Disciplene
 - 4. Discipline

Question ID : 9895806150
Chosen Option : -

Q16 Select the antonym of the given word.

TIMID

- Ans
- 1. Brave
 - 2. Jealous
 - 3. Generous
 - 4. Kind

Question ID : 9895806144
Chosen Option : -

Q17 Select the most appropriate option to substitute the underlined segment in the given sentence. If there is no need to substitute it, select No improvement.

The pursuit of truth has at last led us to the tools by which we have ourselves become destroyers of our own institutions.

- Ans**
- 1. by which we have ourselves become
 - 2. by which we have yourself become
 - 3. by which we have themselves become
 - 4. No improvement

Question ID : 9895806132
Chosen Option : -

Q18 Select the most appropriate option to substitute the underlined segment in the given sentence. If there is no need to substitute it, select No improvement.

As a public speaker I have to take care that every word I said is heard distinctly at the far end of large halls containing thousands of people.

- Ans**
- 1. to take care that every word I am saying
 - 2. to take care that every word I say
 - 3. to take care that every word I will said
 - 4. No improvement

Question ID : 9895806133
Chosen Option : -

Q19 From the given options, identify the segment in the sentence which contains the grammatical error.

In evaluate your progress, I have taken into account your classroom performance, receptivity and overall improvement.

- Ans**
- 1. into account
 - 2. overall improvement
 - 3. In evaluate
 - 4. have taken

Question ID : 9895806129
Chosen Option : -

Q20 Select the synonym of the given word.

LAVISH

- Ans**
- 1. Stingy
 - 2. Liberal
 - 3. Free
 - 4. Expensive

Question ID : 9895806142
Chosen Option : -

Q21 Select the most appropriate word to fill in the blank.

He looked up the _____ to find out when the Sun would rise.

- Ans
- 1. almanac
 - 2. diary
 - 3. year book
 - 4. atlas

Question ID : 9895806153
Chosen Option : -

Q22 Select the most appropriate option to substitute the underlined segment in the given sentence. If there is no need to substitute it, select No improvement.

We decided to take one shortest route to our destination so that we could save travel-time.

- Ans
- 1. to take the shortest route
 - 2. to take a shortest route
 - 3. No improvement
 - 4. to take an shortest route

Question ID : 9895806131
Chosen Option : -

Q23 From the given options, identify the segment in the sentence which contains the grammatical error.

One should take advantage of opportunities to talk with native speakers if one wants to improve your English.

- Ans
- 1. opportunities to talk
 - 2. one wants to improve your
 - 3. take advantage of
 - 4. One should

Question ID : 9895806130
Chosen Option : -

Q24 Select the most appropriate option to fill in the blank.

There is a lovely _____ of the town from the window.

- Ans
- 1. spectacle
 - 2. vision
 - 3. image
 - 4. view

Question ID : 9895806134
Chosen Option : -

Q25

Select the word which means the same as the group of words given.

People working in the same department or office

- Ans**
- 1. Fellows
 - 2. Colleagues
 - 3. Friends
 - 4. Companions

Question ID : 9895806149
Chosen Option : -

Section : Hindi Language

Q1 सही वर्तनी वाले शब्द का चयन करें।

- Ans**
- 1. राष्ट्रियता
 - 2. राश्ट्रीयता
 - 3. रष्ट्रीयता
 - 4. राष्ट्रियता

Question ID : 9895805944
Chosen Option : 1

Q2 निम्नलिखित में से उस विकल्प का चयन करें जो 'पगड़ी उछालना' मुहावरे का अर्थ व्यक्त करता है।

- Ans**
- 1. सम्मान करना
 - 2. खुश होना
 - 3. पगड़ी को उछालना
 - 4. अपमान करना

Question ID : 9895805940
Chosen Option : 4

Q3 दिए गए वाक्य में रेखांकित खंड को प्रतिस्थापित करने के लिए उपयुक्त विकल्प का चयन करें।

कर्मक्षेत्र में निरंतर संघर्ष करते रहने की नाम ही जीवन है।

- Ans**
- 1. करते रहनी का नाम ही जीवन है।
 - 2. करते रहने से नाम ही जीवन है।
 - 3. करते रहने का नाम ही जीवन है।
 - 4. करते रहने को नाम ही जीवन है।

Question ID : 9895805924
Chosen Option : 3

Q4 दिए गए शब्द के पर्यायवाची शब्द का चयन करें।

वृक्ष

- Ans
- 1. वारि
 - 2. विटप
 - 3. व्योम
 - 4. पौधा

Question ID : 9895805938
Chosen Option : 2

Q5 रिक्त स्थान को भरने के लिए उपयुक्त शब्द का चयन करें।

पानी _____ रहा है।

- Ans
- 1. भीग
 - 2. जाग
 - 3. नाच
 - 4. बरस

Question ID : 9895805928
Chosen Option : 4

Q6 दिए गए वाक्य का वह भाग ज्ञात करें जिसमें कोई त्रुटि है।

कोहरा छटने के बाद सर्दी में सुनहरा धूप बड़ी आरामदायक होती है।

- Ans
- 1. कोहरा छटने के बाद
 - 2. सुनहरा धूप
 - 3. सर्दी में
 - 4. बड़ी आरामदायक होती है।

Question ID : 9895805922
Chosen Option : 2

Q7 रिक्त स्थान को भरने के लिए उपयुक्त शब्द का चयन करें।

राम कलम _____ लिखता है।

- Ans
- 1. को
 - 2. पर
 - 3. में
 - 4. से

Q8 दिए गए वाक्य में रेखांकित खंड को प्रतिस्थापित करने के लिए उपयुक्त विकल्प का चयन करें।

मेरे घर के पास गाय के ताजा दूध मिलता है।

- Ans
- 1. गाय का ताजी दूध
 - 2. गाय का ताजा दूध
 - 3. गाय की ताजा दूध
 - 4. गाय के ताजी दूध

Q9 रिक्त स्थान को भरने के लिए उपयुक्त शब्द का चयन करें।

आजकल अंधाधुंध वृक्ष _____ जा रहे हैं।

- Ans
- 1. काटे
 - 2. चलते
 - 3. जाते
 - 4. भागे

Q10 दिए गए शब्द का विलोम चुनें।

सृष्टि

- Ans
- 1. प्रलय
 - 2. तूफान
 - 3. संसार
 - 4. ब्रह्माण्ड

Q11 दिये गये वाक्यांश के लिए एक शब्द चुनिए।

जिसकी कोई संतान न हो

- Ans
- 1. वितान
 - 2. विधुर

✓ 3. निस्संतान

✗ 4. कुंवारा

Question ID : 9895805942
Chosen Option : 3

Q12 दिए गए शब्द का विलोम चुनें।

अतिवृष्टि

Ans ✗ 1. दीर्घवृष्टि

✗ 2. वृष्टि

✗ 3. लघुवृष्टि

✓ 4. अनावृष्टि

Question ID : 9895805936
Chosen Option : 4

Comprehension:

निम्नलिखित गद्यांश के रिक्त स्थानों की पूर्ति गद्यांश के नीचे दिए गए प्रश्नों के अनुसार कीजिए -

यदि हम _____ (1) के लिए युद्ध से विमुख हो जाते हैं तो हम एक ऐसे सुखी समाज का _____ (2) कर सकते हैं जिसमें ज्ञान और विज्ञान की सतत _____ (3) हो सकती है। क्या हम इस स्वर्गीय आनंद के बदले विनाशक मृत्यु को इसलिए चाहते हैं क्योंकि हम अपने झगड़े समाप्त नहीं कर सकते। हम आपसे _____ (4) होने के नाते मनुष्यता के नाम पर यह प्रार्थना करते हैं कि आप सब कुछ भूल कर केवल मानवता को ही याद रखें। यदि आप यह कर सकते हैं, तो निश्चय ही महान _____ (5) के लिए रास्ता खुला है।

SubQuestion No : 13

Q13 गद्यांश में संकेतित रिक्त स्थान (1) के लिए उपयुक्त शब्द होगा -

Ans ✗ 1. पक्षियों

✗ 2. युद्ध

✓ 3. सदैव

Comprehension:

निम्नलिखित गद्यांश के रिक्त स्थानों की पूर्ति गद्यांश के नीचे दिए गए प्रश्नों के अनुसार कीजिए -

यदि हम _____ (1) के लिए युद्ध से विमुख हो जाते हैं तो हम एक ऐसे सुखी समाज का _____ (2) कर सकते हैं जिसमें ज्ञान और विज्ञान की सतत _____ (3) हो सकती है। क्या हम इस स्वर्गीय आनंद के बदले विनाशक मृत्यु को इसलिए चाहते हैं क्योंकि हम अपने झगड़े समाप्त नहीं कर सकते। हम आपसे _____ (4) होने के नाते मनुष्यता के नाम पर यह प्रार्थना करते हैं कि आप सब कुछ भूल कर केवल मानवता को ही याद रखें। यदि आप यह कर सकते हैं, तो निश्चय ही महान _____ (5) के लिए रास्ता खुला है।

SubQuestion No : 14

Q14 गद्यांश में संकेतित रिक्त स्थान (2) के लिए उपयुक्त शब्द होगा -

- Ans
- 1. कठिन
 - 2. संकट
 - 3. दुख
 - 4. निर्माण

Comprehension:

निम्नलिखित गद्यांश के रिक्त स्थानों की पूर्ति गद्यांश के नीचे दिए गए प्रश्नों के अनुसार कीजिए -

यदि हम _____ (1) के लिए युद्ध से विमुक्त हो जाते हैं तो हम एक ऐसे सुखी समाज का _____ (2) कर सकते हैं जिसमें ज्ञान और विज्ञान की सतत _____ (3) हो सकती है। क्या हम इस स्वर्गीय आनंद के बदले विनाशक मृत्यु को इसलिए चाहते हैं क्योंकि हम अपने झगड़े समाप्त नहीं कर सकते। हम आपसे _____ (4) होने के नाते मनुष्यता के नाम पर यह प्रार्थना करते हैं कि आप सब कुछ भूल कर केवल मानवता को ही याद रखें। यदि आप यह कर सकते हैं, तो निश्चय ही महान _____ (5) के लिए रास्ता खुला है।

SubQuestion No : 15

Q15 गद्यांश में संकेतित रिक्त स्थान (3) के लिए उपयुक्त शब्द होगा -

- Ans**
- 1. अधोगति
 - 2. अवनति
 - 3. प्रगति
 - 4. विनाश

Question ID : 9895805933

Chosen Option : 3

Comprehension:

निम्नलिखित गद्यांश के रिक्त स्थानों की पूर्ति गद्यांश के नीचे दिए गए प्रश्नों के अनुसार कीजिए -

यदि हम _____ (1) के लिए युद्ध से विमुक्त हो जाते हैं तो हम एक ऐसे सुखी समाज का _____ (2) कर सकते हैं जिसमें ज्ञान और विज्ञान की सतत _____ (3) हो सकती है। क्या हम इस स्वर्गीय आनंद के बदले विनाशक मृत्यु को इसलिए चाहते हैं क्योंकि हम अपने झगड़े समाप्त नहीं कर सकते। हम आपसे _____ (4) होने के नाते मनुष्यता के नाम पर यह प्रार्थना करते हैं कि आप सब कुछ भूल कर केवल मानवता को ही याद रखें। यदि आप यह कर सकते हैं, तो निश्चय ही महान _____ (5) के लिए रास्ता खुला है।

SubQuestion No : 16

Q16 गद्यांश में संकेतित रिक्त स्थान (4) के लिए उपयुक्त शब्द होगा -

- Ans**
- 1. राक्षस
 - 2. जानवर
 - 3. मनुष्य
 - 4. देवता

Question ID : 9895805934

Chosen Option : 3

Comprehension:

निम्नलिखित गद्यांश के रिक्त स्थानों की पूर्ति गद्यांश के नीचे दिए गए प्रश्नों के अनुसार कीजिए -

यदि हम _____ (1) के लिए युद्ध से विमुख हो जाते हैं तो हम एक ऐसे सुखी समाज का _____ (2) कर सकते हैं जिसमें ज्ञान और विज्ञान की सतत _____ (3) हो सकती है। क्या हम इस स्वर्गीय आनंद के बदले विनाशक मृत्यु को इसलिए चाहते हैं क्योंकि हम अपने झगड़े समाप्त नहीं कर सकते। हम आपसे _____ (4) होने के नाते मनुष्यता के नाम पर यह प्रार्थना करते हैं कि आप सब कुछ भूल कर केवल मानवता को ही याद रखें। यदि आप यह कर सकते हैं, तो निश्चय ही महान _____ (5) के लिए रास्ता खुला है।

SubQuestion No : 17

Q17 गद्यांश में संकेतित रिक्त स्थान (5) के लिए उपयुक्त शब्द होगा -

- Ans**
- 1. वर्तमान
 - 2. भविष्य
 - 3. भूत
 - 4. अतीत

Question ID : 9895805935

Chosen Option : 2

Q18 दिए गए वाक्य का वह भाग ज्ञात करें जिसमें कोई त्रुटि है।
नदियाँ हमारा जीवन हैं इसलिए हम उनके पूजा करते हैं।

- Ans
- 1. जीवन हैं
 - 2. पूजा करते हैं।
 - 3. इसलिए हम उनके
 - 4. नदियाँ हमारा

Question ID : 9895805921
Chosen Option : 3

Q19 दिए गए शब्द के पर्यायवाची शब्द का चयन करें।

भौरा

- Ans
- 1. मधु
 - 2. मधुमति
 - 3. मधुप
 - 4. मधुमाला

Question ID : 9895805939
Chosen Option : 3

Q20 दिए गए वाक्य का वह भाग ज्ञात करें जिसमें कोई त्रुटि है।

पढ़ाई से मुक्त होकर कुछ करने का उमंग उनके चेहरों पर साफ दिखाई दे रही है।

- Ans
- 1. साफ दिखाई दे रही है।
 - 2. पढ़ाई से मुक्त होकर
 - 3. कुछ करने का उमंग
 - 4. उनके चेहरों पर

Question ID : 9895805920
Chosen Option : 3

Q21 दिये गये वाक्यांश के लिए एक शब्द चुनिए।

जो नया जन्मा हो

- Ans
- 1. सजातीय
 - 2. नवजात
 - 3. पारिजात
 - 4. कुजात

Question ID : 9895805943
Chosen Option : 2

Q22 दिए गए वाक्य में रेखांकित खंड को प्रतिस्थापित करने के लिए उपयुक्त विकल्प का चयन करें।

सुंदरलाल बहुगुणा ने 'चिपको आंदोलन' द्वारा लोगों को जागरूकता करने का प्रयास किया।

- Ans
- 1. जागरूक करने को
 - 2. जागरूकता करने से
 - 3. जागरूक करने की
 - 4. जागरूक करने का

Question ID : 9895805925
Chosen Option : 4

Q23 रिक्त स्थान को भरने के लिए उपयुक्त शब्द का चयन करें।

पहले _____ देखो फिर सड़क पार करो।

- Ans
- 1. दाएँ-बाएँ
 - 2. अंदर-बाहर
 - 3. ऊपर-भीतर
 - 4. जिधर-किधर

Question ID : 9895805926
Chosen Option : 1

Q24 निम्नलिखित में से उस विकल्प का चयन करें जो 'पल्ला झाड़ना' मुहावरे का अर्थ व्यक्त करता है।

- Ans
- 1. पीछा छुड़ा लेना
 - 2. पल्ले का झाड़ना बनाना
 - 3. पल्ले को झाड़ना-पोंछना
 - 4. पीछे पड़ जाना

Question ID : 9895805941
Chosen Option : 1

Q25 सही वर्तनी वाले शब्द का चयन करें।

- Ans
- 1. एकादशि
 - 2. एकादषी
 - 3. एकदशी
 - 4. एकादशी

Question ID : 9895805945
Chosen Option : 4

KD Job Updates

Constable (GD) in CAPFs, NIA, SSF and Rifleman (GD) in Assam Rifles Examination, 2018

Roll No. :	
Registration No.	
Name :	
Exam Venue :	
Exam Time :	12:30 PM - 2:00 PM
Exam Date :	22/02/2019

Section : General Section

Q.1 'घोडा' उसी तरह से संबंधित है 'बछड़े' से, जिस प्रकार 'आदमी' संबंधित है ' _____ ' से ।

- Ans
1. विद्यार्थी
2. बच्चा
3. महिला
4. परिवार

Question ID : 9895806486
Chosen Option : 2

Q.2 दिए गए समीकरण को सही बनाने के लिए किन दो चिन्हों को आपस में बदलना होगा?

$$0 \div 15 + 15 - 10 \times 10 = -99$$

- Ans
1. + और ×
2. + और ÷
3. ÷ और -
4. ÷ और ×

Question ID : 9895806498
Chosen Option : 2

Q.3 उस विकल्प का चयन करें जो तीसरे पद से उसी तरह से संबंधित है जिस प्रकार दूसरा पद पहले पद से संबंधित है।

प्रचुर : दुर्लभ :: आगमन : ?

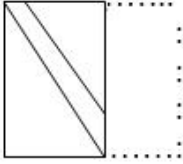
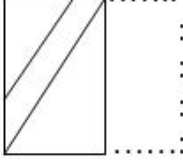
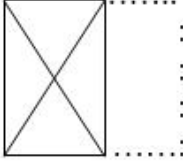
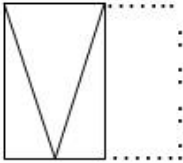
- Ans
1. प्रस्थान
2. पहुँचना
3. रुकना
4. आना

Question ID : 9895806485
Chosen Option : 1

Q.4 एक पैटर्न के साथ एक चौकोर पारदर्शी शीट दी गई है। चार विकल्पों में उस विकल्प का चयन करें जो जब पारदर्शी शीट को बिन्दुदार रेखा पर मोड़ें जाने पर दिखाई देने वाले पैटर्न को दर्शाता है।



Ans

 1. 2. 3. 4.

Question ID : 9895806504

Chosen Option : 3

Q.5 उस पद का चयन करें जो निम्नलिखित श्रृंखला में अगला आएगा।

aCCe, fHHj, kMMo, _____

Ans

 1. qSSt 2. qRRt 3. pQQr 4. pRRt

Question ID : 9895806481

Chosen Option : 4

Q.6 उस विकल्प का चयन करें जो तीसरे पद से उसी तरह से संबंधित है जिस प्रकार दूसरा पद पहले पद से संबंधित है।

$\frac{10}{13} : 269 :: \frac{12}{16} : \underline{\hspace{2cm}}$

Ans

 1. 400 2. 256 3. 350 4. 326

Question ID : 9895806496

Chosen Option : 1

Q.7

दिए गए कथनों और निष्कर्षों को ध्यानपूर्वक पढ़ें और तय करें कि कौन सा/से निष्कर्ष तार्किक रूप से कथनों का अनुसरण करता है/ करते हैं।

कथन:

सभी लड़कियां छात्राएं हैं।
सभी छात्राएं बहनें हैं।

निष्कर्ष:

- I. सभी लड़कियां बहनें हैं।
- II. कुछ लड़कियां बहनें नहीं हैं।

Ans

1. न तो निष्कर्ष I और न ही निष्कर्ष II अनुसरण करता है।
2. निष्कर्ष I और II दोनों अनुसरण करते हैं।
3. केवल निष्कर्ष II अनुसरण करता है।
4. केवल निष्कर्ष I अनुसरण करता है।

Question ID : 9895806492

Chosen Option : 4

Q.8 सरथ, नवीन, दीपक और विक्रम एक गोल मेज के चारों ओर बैठे हैं और अपने व्यापार पर चर्चा कर रहे हैं। सरथ इंजीनियर के सामने बैठा है। नवीन डॉक्टर के दाईं ओर बैठा है। वकील पुलिस के बाईं ओर है। विक्रम दीपक के सामने बैठा है।

इंजीनियर कौन है?

Ans

1. विक्रम
2. सरथ
3. दीपक
4. नवीन

Question ID : 9895806490

Chosen Option : 4

Q.9 निम्नलिखित संख्या श्रृंखला में, दो संख्याओं को कोष्ठक में रखा गया है। श्रृंखला का ध्यानपूर्वक अध्ययन करें और श्रृंखला के संबंध में सही विकल्प का चयन करें।

2, 5, 10, 17, (26), 37, 50, 65, (81), 101

Ans

1. (बाएं से) पहली कोष्ठक वाली संख्या सही है और दूसरी गलत है।
2. दोनों कोष्ठक वाली संख्याएँ गलत हैं।
3. (बाएं से) पहली कोष्ठक वाली संख्या गलत है और दूसरी सही है।
4. दोनों कोष्ठक वाली संख्याएँ सही हैं।

Question ID : 9895806499

Chosen Option : 1

Q.1 0 उस संख्या को पहचानें जो निम्न श्रृंखला से संबंधित नहीं है।

0, 7, 26, 2, 9, 27, 4, 11, 30

- Ans 1. 27
 2. 9
 3. 26
 4. 7

Question ID : 9895806495
 Chosen Option : 1

Q.1 नीचे दिए गए कथनों के बाद दो निष्कर्ष I और II दिए गए हैं। आपको कथनों में दी गई जानकारी को सत्य मानना है, भले ही वे सर्वेसर्वे तथ्यों से भिन्न प्रतीत होती हों, और यह तय करना है कि कौन सा/से निष्कर्ष तार्किक रूप से और निश्चित रूप से कथनों का अनुसरण करता है/ करते हैं।

कथन :

कुछ बंदर गधे हैं।
 सभी गधे शेर हैं।

निष्कर्ष:

- I. सभी शेर गधे हैं।
 II. सभी गधे बंदर हैं।

- Ans 1. केवल निष्कर्ष II अनुसरण करता है।
 2. निष्कर्ष I और II दोनों अनुसरण करते हैं।
 3. केवल निष्कर्ष I अनुसरण करता है।
 4. न तो निष्कर्ष I और न ही निष्कर्ष II अनुसरण करता है।

Question ID : 9895806493
 Chosen Option : 4

Q.1 पाँच मित्र एक पंक्ति में बैठे हैं। सत्या, प्रभा के बगल में बैठी है लेकिन दिव्या के बगल में नहीं। कीर्ति, रोजा के बगल में बैठी है जो बाएँ छोर पर बैठी है। दिव्या, कीर्ति के बगल में नहीं बैठी है। बीच में कौन बैठा है?

- Ans 1. दिव्या
 2. प्रभा
 3. कीर्ति
 4. सत्या

Question ID : 9895806489
 Chosen Option : 4

Q.1 एक दवा कंपनी ने आठ नई दवाएँ - A, B, C, D, E, F, G और H लॉन्च कीं। दवाइयों को 2015 में 3 महीने की अवधि में एक के बाद एक लॉन्च किया गया था। लॉन्च करने का क्रम निम्नलिखित शर्तों पर आधारित था:

- A, H के तुरंत बाद लॉन्च हुआ;
 E, G और A दोनों से पहले लॉन्च हुआ;
 C, E के तुरंत बाद लॉन्च हुआ;
 D, E से पहले लेकिन B के बाद लॉन्च हुआ; तथा
 B, F से तुरंत पहले लॉन्च हुआ।

निम्नलिखित में से कौन सा कथन सत्य हो सकता है?

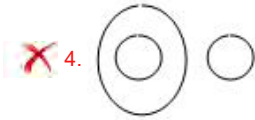

- Ans 1. G लॉन्च की जाने वाली दूसरी दवा थी।
 2. B लॉन्च की जाने वाली तीसरी दवा थी।
 3. A लॉन्च की जाने वाली चौथी दवा थी।
 4. C लॉन्च की जाने वाली पाँचवी दवा थी।

Question ID : 9895806491
Chosen Option : 4

Q.1 वेन आरेख का चयन करें जो दिए गए तीन वर्गों के बीच के संबंध को सर्वोत्तम रूप में दर्शाता है।

भाषाएँ, हिन्दी, मलयालम

Ans



Question ID : 9895806505
Chosen Option : 3

Q.1 निम्नलिखित में से असंगत की पहचान करें।

Ans

1. 167

2. 256

3. 225

4. 196

Question ID : 9895806497
Chosen Option : 1

Q.1 यदि PROFIT को 17-19-16-7-10-21 के रूप में कूटबद्ध किया गया है, तो COMPANY को कैसे कूटबद्ध किया जाएगा?

Ans

1. 4-16-14-17-2-15-26

2. 3-15-13-16-1-14-25

3. 3-16-14-17-2-15-25

4. 4-15-13-17-2-15-26

Question ID : 9895806487
Chosen Option : 1

Q.1 Select the option that most closely resembles the mirror image of the given figure.

7

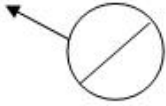


Ans

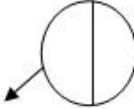
✓ 1.



✗ 2.



✗ 3.



✗ 4.



Question ID : 9895806503

Chosen Option : 1

Q.1
8 निम्नलिखित में से असंगत को पहचानें।

Ans

✗ 1. रजाई

✗ 2. बिस्तर

✗ 3. तकिया

✓ 4. भेड़

Question ID : 9895806482

Chosen Option : 4

Q.1
9 निम्नलिखित में से असंगत को पहचानें।

Ans

✗ 1. I

✗ 2. U

✗ 3. E

✓ 4. Z

Question ID : 9895806483

Chosen Option : 4

Q.2
0 निम्नलिखित श्रृंखला में अगली आने वाली दशमलव संख्या को पहचानें।

20, 19.9, 19.89, 19.889, 19.8889, _____

Ans

✗ 1. 19.88888

✗ 2. 19.88999

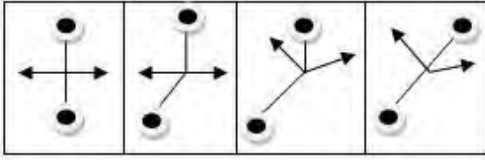
✗ 3. 19.98889

✓ 4. 19.88889

Question ID : 9895806494

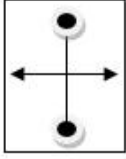
Chosen Option : 4

Q.2
1 निम्नलिखित श्रृंखला में आगे आने वाली आकृति का चयन करें।

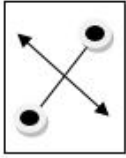


Ans

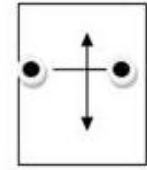
1.



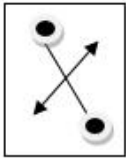
2.



3.

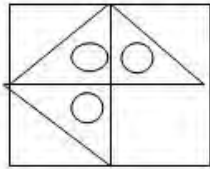


4.



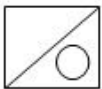
Question ID : 9895806500
Chosen Option : 2

Q.2
2 निम्नलिखित पैटर्न को पूरा करने के लिए सही विकल्प का चयन करें।



Ans

1.



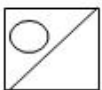
2.



3.



4.



Question ID : 9895806502
Chosen Option : 4

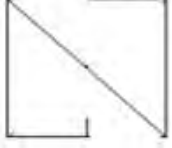
Q.2
3 निम्नलिखित में से असंगत युग्म को पहचानें।

Ans 1. विक्टोरिया स्मारक : कोलकाता

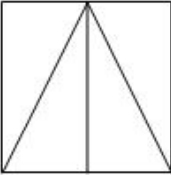
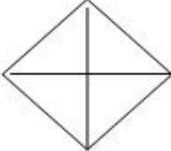
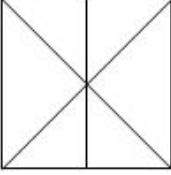
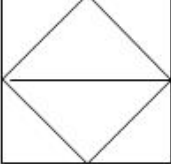
2. ताज महल : आगरा
3. कोणार्क : ओडिशा
4. इंडिया गेट : नई दिल्ली

Question ID : 9895806484
Chosen Option : 3

Q.2
4 उस विकल्प का चयन करें जिसमें दी गई आकृति अंतर्निहित है।



Ans

1. 
2. 
3. 
4. 

Question ID : 9895806501
Chosen Option : 3

Q.2
5 यदि OFFICE को PHIMHK के रूप में कूटबद्ध किया जाता है, तो COLLEGE को _____ के रूप में कूटबद्ध किया जाएगा।

- Ans 1. DQOPJML
2. DQOPJNL
3. DQOOJML
4. DQPPJML

Question ID : 9895806488
Chosen Option : 1

Q.2
6 रेगिस्तानी क्षेत्र में किस प्रकार की वनस्पति सामान्य रूप से पाई जाती है?

- Ans 1. वृक्ष
2. झाड़ी
3. हर्बेशीयस

4. बेलें

Question ID : 9895806548
Chosen Option : 2

Q.2
7 विश्व में सबसे बड़ा पेयजल जलाशय कहाँ स्थित है?

- Ans 1. रूस
 2. सऊदी अरब
 3. संयुक्त राज्य अमेरिका
 4. चीन

Question ID : 9895806549
Chosen Option : 1

Q.2
8 'ग्रेट मैन मेड रिवर' किस देश में स्थित है?

- Ans 1. केन्या
 2. लीबिया
 3. इथियोपिया
 4. मिस्र

Question ID : 9895806550
Chosen Option : 4

Q.2
9 ऋग्वेद को कितने 'मंडलों' या पुस्तकों में विभाजित किया गया है?

- Ans 1. 7
 2. 5
 3. 10
 4. 12

Question ID : 9895806553
Chosen Option : 3

Q.3
0 भारतीय पारंपरिक खेल, 'इन्सुकनार' किस राज्य से संबंधित है?

- Ans 1. नागालैंड
 2. मेघालय
 3. मिज़ोरम
 4. मणिपुर

Question ID : 9895806534
Chosen Option : 2

Q.3
1 'मोडसे' निम्नलिखित में से किस भारतीय राज्य का पारंपरिक नृत्य है?

- Ans 1. मिज़ोरम
 2. ओडिशा

3. झारखंड

4. नागालैंड

Question ID : 9895806531

Chosen Option : 1

Q.3
2 'लोसोंग' निम्नलिखित में से किस भारतीय राज्य का त्योहार है?

Ans 1. गोवा

2. मेघालय

3. अरुणाचल प्रदेश

4. सिक्किम

Question ID : 9895806532

Chosen Option : 4

Q.3
3 किसी भी परिसंकटमय नियोजन में काम करने के लिए 14 वर्ष से कम उम्र के बच्चों का निषेध भारतीय संविधान के किस अनुच्छेद में वर्णित है?

Ans 1. 23

2. 24

3. 22

4. 25

Question ID : 9895806542

Chosen Option : 2

Q.3
4 'वाय आई एम ए हिन्दू' पुस्तक के लेखक कौन हैं?

Ans 1. शशि थरूर

2. अमीष त्रिपाठी

3. चेतन भगत

4. दुर्जोय दत्ता

Question ID : 9895806537

Chosen Option : 1

Q.3
5 निम्नलिखित में से पल्लव राजवंश की राजधानी कौन सी थी?

Ans 1. मदुरै

2. विशाखापट्टनम

3. कांचीपुरम

4. तंजावुर

Question ID : 9895806554

Chosen Option : 3

Q.3
6 टमाटर में कौन सा अम्ल (एसिड) मौजूद होता है?

- Ans
- 1. मेलिक एसिड
 - 2. सल्फेनिक एसिड
 - 3. टार्टरिक एसिड
 - 4. ओक्सीलिक एसिड

Question ID : 9895806546
Chosen Option : 3

Q.3
7 भारत में GST कब लागू हुआ?

- Ans
- 1. 2 अक्टूबर 2015
 - 2. 8 नवंबर 2016
 - 3. 1 जुलाई 2017
 - 4. 15 अगस्त 2014

Question ID : 9895806539
Chosen Option : 3

Q.3
8 धुपगढ़ चोटी भारत के किस राज्य में स्थित है?

- Ans
- 1. गुजरात
 - 2. मध्य प्रदेश
 - 3. उत्तर प्रदेश
 - 4. राजस्थान

Question ID : 9895806551
Chosen Option : 2

Q.3
9 निम्नलिखित में से श्रीलंका का राष्ट्रीय खेल कौन सा है?

- Ans
- 1. हॉकी
 - 2. क्रिकेट
 - 3. बास्केटबॉल
 - 4. वॉलीबॉल

Question ID : 9895806535
Chosen Option : 1

Q.4
0 बैंकिंग शब्दावली में, SLR शब्द का अर्थ है:

- Ans
- 1. सबोर्डिनेट लेवल रिटर्न
 - 2. स्टैंडर्ड लिक्विड रेशिओ
 - 3. स्टेच्युटरी लिक्विडिटी रेशिओ
 - 4. सबसीडरी लेवरेजिंग रेशिओ

Question ID : 9895806540
Chosen Option : 3

Q.4 किसी एक व्यक्ति को भारतीय सर्वोच्च न्यायालय के न्यायाधीश के रूप में नियुक्त होने के लिए उच्च न्यायालय में कितने वर्षों तक अभ्यास करना अनिवार्य है?

- Ans
- 1. 5
 - 2. 15
 - 3. 10
 - 4. 12

Question ID : 9895806544
Chosen Option : 3

Q.4 हरित क्रांति निम्नलिखित में से किस राष्ट्र में पहले शुरू की गई थी?

- Ans
- 1. मेक्सिको
 - 2. ब्राज़िल
 - 3. चिली
 - 4. अर्जेंटीना

Question ID : 9895806552
Chosen Option : 1

Q.4 भारतीय राष्ट्रीय कांग्रेस की स्थापना किस शहर में हुई थी?

- Ans
- 1. कलकत्ता
 - 2. राजकोट
 - 3. मद्रास
 - 4. बंबई

Question ID : 9895806555
Chosen Option : 4

Q.4 FM रेडियो का पेटेंट किसने कराया था?

- Ans
- 1. थॉमस ऐल्वा एडीसन
 - 2. एडविन एच. आर्मस्ट्रांग
 - 3. निकोला टेस्ला
 - 4. जॉन लॉगी बेयर्ड

Question ID : 9895806545
Chosen Option : 3

Q.4 भारतीय संसद द्वारा भगोड़ा आर्थिक अपराधी अधिनियम कब पारित किया गया?

- Ans
- 1. 2016
 - 2. 2012
 - 3. 2014
 - 4. 2018

Question ID : 9895806543

Chosen Option : 1

Q.4 6 ऐतिहासिक फव्वारा 'गुलज़ार हौज़' निम्नलिखित में से किस भारतीय शहर में स्थित है?

- Ans
- 1. अजमेर
 - 2. दिल्ली
 - 3. हैदराबाद
 - 4. लखनऊ

Question ID : 9895806533
Chosen Option : 4

Q.4 7 भारत सरकार के द्वारा घोषित न्यूनतम समर्थन मूल्य (MSP) कितनी फसलों के लिए है?

- Ans
- 1. 20
 - 2. 15
 - 3. 25
 - 4. 30

Question ID : 9895806541
Chosen Option : 1

Q.4 8 निम्नलिखित में से विश्व के किस नेता को प्रथम फिलिप कोटलर प्रेसिडेंसियल सम्मान से सम्मानित किया गया है?

- Ans
- 1. नरेंद्र मोदी
 - 2. डोनाल्ड ट्रम्प
 - 3. एन्जेला मर्केल
 - 4. थेरेसा मे

Question ID : 9895806536
Chosen Option : 1

Q.4 9 Which of the following animals is a mammal?

- Ans
- 1. Whale
 - 2. Tortoise
 - 3. Annelids
 - 4. Bullfrogs

Question ID : 9895806547
Chosen Option : 4

Q.5 0 वह उद्योगपति की पहचान करें जो वेदांत रिसोर्सिज़ नामक प्राकृतिक संसाधन कंपनी के संस्थापक हैं।

- Ans
- 1. शंकर उदय
 - 2. अनील अगरवाल
 - 3. विशाल सिक्का
 - 4. कुलदीप अगरवाल

Question ID : 9895806538

Chosen Option : 2

- Q.5 तालिका का उचित रूप से अध्ययन करें और आंकड़े की व्याख्या करके उत्तर दें:
1 तालिका एक परीक्षा में चार अलग-अलग विषयों में पांच छात्रों द्वारा प्राप्त अंकों का प्रतिशत दर्शाती है।

छात्र	विषय (अधि. अंक)			
	गणित (150)	रसायन विज्ञानं (130)	भौतिक विज्ञानं (120)	जीव विज्ञानं (100)
हरीश	90	50	60	70
रमण	80	30	60	65
राजेश	70	60	80	82
मनोज	35	75	20	72
अजमत	40	35	38	48

रसायन विज्ञान में सभी पांच छात्रों द्वारा प्राप्त औसत अंक क्या है?

- Ans
- 1. 85
 - 2. 65
 - 3. 70
 - 4. 75

Question ID : 9895806603

Chosen Option : 3

- Q.5 15 वस्तुओं का क्रय मूल्य 12 वस्तुओं के विक्रय मूल्य के बराबर है। लाभ या हानि प्रतिशत है:

- Ans
- 1. 20% हानि
 - 2. 25% हानि
 - 3. 20% लाभ
 - 4. 25% लाभ

Question ID : 9895806597

Chosen Option : 4

- Q.5 3 ARITHMETIC शब्द में, 1 अक्षर के होने का प्रतिशत क्या है?

- Ans
- 1. 20%
 - 2. 10%
 - 3. 25%
 - 4. 15%

Question ID : 9895806591

Chosen Option : 1

- Q.5 4 केन्द्रीय प्रवृत्ति में माध्य, माध्यिका और बहुलक के बीच संबंध है:

- Ans
- 1. माध्यिका = 3 बहुलक - 2 माध्य
 - 2. माध्यिका = 3 बहुलक + 2 माध्य
 - 3. बहुलक = 3 माध्यिका - 2 माध्य

4. बहुलक = 3 माध्यिका + 2 माध्य

Question ID : 9895806590
Chosen Option : 3

Q.5 एक व्यक्ति 60 किमी / घंटा की गति से एक स्थान (P) से दूसरे स्थान (Q) पर जाता है और अपनी गति को 50% बढ़ाकर Q से वापस आता है। व्यक्ति की औसत गति है:

- Ans
- 1. 62 km/hr
 - 2. 72 km/hr
 - 3. 74 km/hr
 - 4. 75 km/hr

Question ID : 9895806589
Chosen Option : 2

Q.5 दो समबाहु त्रिभुजों का क्षेत्रफल का अनुपात 36 : 64 है। उनकी ऊंचाई का अनुपात होगा:

- Ans
- 1. 64 : 36
 - 2. 6 : 8
 - 3. 8 : 6
 - 4. 36 : 64

Question ID : 9895806601
Chosen Option : 2

Q.5 एक बल्लेबाज अपनी 12 वीं पारी में 60 रन बनाता है और इस तरह उसका औसत रन 2 रन से बढ़ जाता है। उसकी 11 वीं पारी के बाद का औसत रन क्या था?

- Ans
- 1. 63
 - 2. 36
 - 3. 48
 - 4. 84

Question ID : 9895806585
Chosen Option : 2

Q.5 कितने प्रतिशत प्रति वर्ष की साधारण ब्याज दर पर ₹1800 की राशि 10 वर्षों में ₹2700 हो जाएगी?

- Ans
- 1. 12%
 - 2. 5%
 - 3. 10%
 - 4. 15%

Question ID : 9895806595
Chosen Option : 2

Q.5
9

तालिका का उचित रूप से अध्ययन करें और आंकड़ों की व्याख्या करके उत्तर दें:
तालिका एक परीक्षा में चार अलग-अलग विषयों में पांच छात्रों द्वारा प्राप्त अंकों का प्रतिशत दर्शाती है।

छात्र	विषय (अधि. अंक)			
	गणित (150)	रसायन विज्ञानं (130)	भौतिक विज्ञानं (120)	जीव विज्ञानं (100)
हरीश	90	50	60	70
रमण	80	30	60	65
राजेश	70	60	80	82
मनोज	35	75	20	72
अजमत	40	35	38	48

सभी विषयों में 50% और उससे अधिक अंक प्राप्त करने वाले छात्रों की संख्या है:

- Ans
1. 5
2. 4
3. 3
4. 2

Question ID : 9895806604
Chosen Option : 4

Q.6 रहीम और हरीश क्रमशः 15 दिनों और 10 दिनों में एक काम पूरा कर सकते हैं। यदि वे एक साथ काम करते हैं तो कितने दिनों में वही काम पूरा हो जाएगा?

- Ans
1. 30
2. 5
3. 25
4. 6

Question ID : 9895806586
Chosen Option : 4

Q.6 40 किमी प्रति घंटे की गति से चल रही एक ट्रेन द्वारा 150 किमी की दूरी तय करने में लगने वाला समय है:

- Ans
1. 2 घंटे 35 मिनट
2. 3 घंटे 35 मिनट
3. 2 घंटे 45 मिनट
4. 3 घंटे 45 मिनट

Question ID : 9895806588
Chosen Option : 4

Q.6 वह सबसे छोटी संख्या कौन सी है जिसे 27, 45, 30 से विभाजित किये जाने पर हर मामले में शेष 5 आता है?

- Ans
1. 102
2. 308
3. 260
4. 275

Question ID : 9895806581
Chosen Option : 4

Q.6 यदि 6 व्यक्ति 24 दिन में 36 एकड़ फसल की कटाई करते हैं, तो 12 व्यक्ति 18 दिनों में कितने एकड़ फसल की कटाई करेंगे?

- Ans
- 1. 35
 - 2. 28
 - 3. 15
 - 4. 24

Question ID : 9895806587

Chosen Option : 4

Q.6 किसी वस्तु के विक्रय मूल्य और क्रय मूल्य का अनुपात 7 : 3 है। वस्तु के लाभ और विक्रय मूल्य के बीच अनुपात क्या होगा?

- Ans
- 1. 5 : 2
 - 2. 7 : 3
 - 3. 7 : 4
 - 4. 4 : 7

Question ID : 9895806593

Chosen Option : 4

Q.6 100 संतरे 400 रुपये में खरीदे जाते हैं और ₹60 प्रति दर्जन की दर से बेचे जाते हैं। लाभ या हानि प्रतिशत है:

- Ans
- 1. 20% हानि
 - 2. 25% लाभ
 - 3. 15% लाभ
 - 4. 30% हानि

Question ID : 9895806598

Chosen Option : 2

Q.6 वार्षिक आधार पर चक्रवृद्धित 5% प्रति वर्ष की व्याज दर पर ₹800 की राशि कितने समय में ₹882 हो जाएगी?

- Ans
- 1. 4 वर्ष
 - 2. 3 वर्ष
 - 3. 2 वर्ष
 - 4. 5 वर्ष

Question ID : 9895806596

Chosen Option : 3

Q.6 पांच संख्याओं का औसत 120 है। यदि एक संख्या को अलग किया जाए, तो शेष चार संख्याओं का औसत 130 है। अलग की गई संख्या है:

- Ans
- 1. 75
 - 2. 110
 - 3. 120
 - 4. 80

Question ID : 9895806584

Chosen Option : 4

Q.6

8 $5 + [(28 - 4) \div 2^2 + 2] - 2$ का मान क्या है?

- Ans
- 1. 5
 - 2. 4
 - 3. 7
 - 4. 6

Question ID : 9895806583
Chosen Option : 3

Q.6
9 $54 - 2(20 + 12 \div 4 \times 3 - 2 \times 2) + 10$ का मान क्या है?

- Ans
- 1. 24
 - 2. 14
 - 3. 4
 - 4. 12

Question ID : 9895806582
Chosen Option : 2

Q.7
0 यदि किसी निश्चित संख्या का 20% किसी अन्य संख्या के $\frac{3}{4}$ के बराबर है, तो संख्याओं के बीच अनुपात क्या है?

- Ans
- 1. 4 : 6
 - 2. 3 : 4
 - 3. 15 : 4
 - 4. 4 : 3

Question ID : 9895806594
Chosen Option : 3

Q.7
1 2 m भुजा वाले घन बॉक्स में 5 cm भुजा वाले कितने घन रखे जा सकते हैं?

- Ans
- 1. 10000
 - 2. 64000
 - 3. 5000
 - 4. 46000

Question ID : 9895806600
Chosen Option : 2

Q.7
2 The base of a right prism is an equilateral triangle with a side of 5m, and its height is 20m. The volume of the prism is:

- Ans
- 1. $125\sqrt{3}m^3$
 - 2. $120 m^3$
 - 3. $120\sqrt{3}m^3$
 - 4. $125 m^3$

Question ID : 9895806602
Chosen Option : 1

Q.7
3 दो संख्याओं का अनुपात 8 : 3 है और उनका अंतर 120 है। दोनों संख्याओं में सबसे छोटी संख्या कौन सी है?

- Ans 1. 72
 2. 84
 3. 65
 4. 162

Question ID : 9895806592
 Chosen Option : 1

Q.7 $\frac{2500}{4}$ अंकित मूल्य वाली एक शर्ट ₹2200 में मिल रही है, कितने प्रतिशत की छूट प्रदान की गई है?

- Ans 1. 10%
 2. 25%
 3. 15%
 4. 12%

Question ID : 9895806599
 Chosen Option : 4

Q.7 $\frac{5}{5}$ तालिका का उचित रूप से अध्ययन करें और आंकड़ों की व्याख्या करके उत्तर दें:
 तालिका एक परीक्षा में चार अलग-अलग विषयों में पांच छात्रों द्वारा प्राप्त अंकों का प्रतिशत दर्शाती है।

छात्र	विषय (अधि. अंक)			
	गणित (150)	रसायन विज्ञानं (130)	भौतिक विज्ञानं (120)	जीव विज्ञानं (100)
हरीश	90	50	60	70
रमण	80	30	60	65
राजेश	70	60	80	82
मनोज	35	75	20	72
अजमत	40	35	38	48

प्रत्येक विषय में 50% से कम अंक प्राप्त करने वाले कितने छात्र हैं:

- Ans 1. 1
 2. 2
 3. 3
 4. 4

Question ID : 9895806605
 Chosen Option : 1

Section : English Language

Q.1 From the given options, identify the segment in the sentence which contains the grammatical error.

Gazing out of the train window as I travelled upon the country, I was introduced to a new India.

- Ans 1. introduced to
 2. upon the
 3. a new India
 4. Gazing out

Question ID : 9895806154
 Chosen Option : --

Q.2 Select the most appropriate option to fill in the blank.

In my opinion, he is the _____ of all the brothers.

- Ans
- 1. brightly
 - 2. brighter
 - 3. brightest
 - 4. bright

Question ID : 9895806161
Chosen Option : --

Q.3 From the given options, identify the segment in the sentence which contains the grammatical error.

The football team had won the series abroad after a decade and brings home the trophy.

- Ans
- 1. won the series
 - 2. abroad after
 - 3. a decade
 - 4. and brings

Question ID : 9895806156
Chosen Option : --

Q.4 Select the most appropriate word to fill in the blank.

I read 'Harry Potter' books because they were _____ by my friend.

- Ans
- 1. motivated
 - 2. advised
 - 3. counselled
 - 4. recommended

Question ID : 9895806176
Chosen Option : --

Q.5 Select the option that means the same as the given idiom.

To be in hot water

- Ans
- 1. To be praised
 - 2. To be in trouble
 - 3. To be unreliable
 - 4. To be depended on

Question ID : 9895806172
Chosen Option : --

Q.6 Select the most appropriate word to fill in the blank.

In what ways has progress in human knowledge _____ our environment?

- Ans
- 1. altered
 - 2. aligned

3. represented

4. reframed

Question ID : 9895806177

Chosen Option : --

Q.7 Select the most appropriate synonym of the given word.

FUTILE

Ans 1. Uninteresting

2. Boring

3. Juicy

4. Useless

Question ID : 9895806168

Chosen Option : --

Q.8 Select the option that means the same as the given idiom.

Fair weather friends

Ans 1. Friends who keep you happy

2. Good company for holidays

3. Friends in good times

4. Friends who are always happy

Question ID : 9895806173

Chosen Option : --

Q.9 Select the correctly spelt word.

Ans 1. Parmission

2. Permmision

3. Permission

4. Permission

Question ID : 9895806179

Chosen Option : --

Q.10 Select the word which means the same as the group of words given.

Country treated as permanent home by an individual

Ans 1. Neighbourhood

2. Residence

3. Domicile

4. Dwelling

Question ID : 9895806175

Chosen Option : --

Q.1

1 Select the antonym of the given word.

GORGEOUS

- Ans 1. Beautiful
 2. Smart
 3. Ordinary
 4. Decorative

Question ID : 9895806170
Chosen Option : --

Comprehension:

In the following passage some words have been deleted. Fill in the blanks with the help of the alternatives given.

Lions live for around 10-14 years in the wild, while in (1) _____ they can live over 20 years. In the wild, males seldom live longer than ten years as fights with rivals occasionally cause them (2) _____. They typically (3) _____ Savanna and grassland, although they may take to bush and forest. A (4) _____ of lions consists of related females and offspring and some adult males. Groups of female lions typically hunt together (5) _____ mostly on large hoofed animals.

SubQuestion No : 12

Q.1
2 Select the most appropriate option that will fill in the blank number 1.

- Ans 1. caves
 2. forest
 3. captivity
 4. cage

Question ID : 9895806163
Chosen Option : --

Comprehension:

In the following passage some words have been deleted. Fill in the blanks with the help of the alternatives given.

Lions live for around 10-14 years in the wild, while in (1) _____ they can live over 20 years. In the wild, males seldom live longer than ten years as fights with rivals occasionally cause them (2) _____. They typically (3) _____ Savanna and grassland, although they may take to bush and forest. A (4) _____ of lions consists of related females and offspring and some adult males. Groups of female lions typically hunt together (5) _____ mostly on large hoofed animals.

SubQuestion No : 13

Q.1
3 Select the most appropriate option that will fill in the blank number 2.

- Ans 1. harm
 2. damage
 3. loss

✓ 4. injuries

Question ID : 9895806164

Chosen Option : --

Comprehension:

In the following passage some words have been deleted. Fill in the blanks with the help of the alternatives given.

Lions live for around 10-14 years in the wild, while in (1) _____ they can live over 20 years. In the wild, males seldom live longer than ten years as fights with rivals occasionally cause them (2) _____. They typically (3) _____ Savanna and grassland, although they may take to bush and forest. A (4) _____ of lions consists of related females and offspring and some adult males. Groups of female lions typically hunt together (5) _____ mostly on large hoofed animals.

SubQuestion No : 14

Q.1
4 Select the most appropriate option that will fill in the blank number 3.

- Ans
- 1. nurture
 - 2. inhabit
 - 3. grow
 - 4. breed

Question ID : 9895806165

Chosen Option : --

Comprehension:

In the following passage some words have been deleted. Fill in the blanks with the help of the alternatives given.

Lions live for around 10-14 years in the wild, while in (1) _____ they can live over 20 years. In the wild, males seldom live longer than ten years as fights with rivals occasionally cause them (2) _____. They typically (3) _____ Savanna and grassland, although they may take to bush and forest. A (4) _____ of lions consists of related females and offspring and some adult males. Groups of female lions typically hunt together (5) _____ mostly on large hoofed animals.

SubQuestion No : 15

Q.1
5 Select the most appropriate option that will fill in the blank number 4.

- Ans
- 1. bunch
 - 2. flock
 - 3. pride
 - 4. pack

Question ID : 9895806166

Chosen Option : --

Comprehension:

In the following passage some words have been deleted. Fill in the blanks with the help of the alternatives given.

Lions live for around 10-14 years in the wild, while in (1) _____ they can live over 20 years. In the wild, males seldom live longer than ten years as fights with rivals occasionally cause them (2) _____. They typically (3) _____ Savanna and grassland, although they may take to bush and forest. A (4) _____ of lions consists of related females and offspring and some adult males. Groups of female lions typically hunt together (5) _____ mostly on large hoofed animals.

SubQuestion No : 16

Q.1
6 Select the most appropriate option that will fill in the blank number 5.

- Ans
- 1. consuming
 - 2. eating
 - 3. snatching
 - 4. preying

Question ID : 9895806167
Chosen Option : --

Q.1
7 Select the most appropriate option to substitute the underlined segment in the given sentence. If there is no need to substitute it, select No improvement.

He searched for his files across the chest of drawers.

- Ans
- 1. in the chest of drawers
 - 2. above the chest of drawers
 - 3. No improvement
 - 4. into the chest of drawers

Question ID : 9895806157
Chosen Option : --

Q.1
8 Select the correctly spelt word.

- Ans
- 1. Commamorate
 - 2. Comemorate
 - 3. Commemorate
 - 4. Comamorate

Question ID : 9895806178
Chosen Option : --

Q.1
9 Select the most appropriate synonym of the given word.

MANDATORY

- Ans
- 1. Advanced
 - 2. Compulsory
 - 3. Lucid
 - 4. Elementary

Question ID : 9895806169

Chosen Option : --

Q.2
0 Select the most appropriate option to fill in the blank.

There is nothing that _____ of us can do to solve the problem.

- Ans
- 1. any
 - 2. every one
 - 3. none
 - 4. no one

Question ID : 9895806160

Chosen Option : --

Q.2
1 Select the antonym of the given word.

PAUCITY

- Ans
- 1. Shortage
 - 2. Surplus
 - 3. Flexibility
 - 4. Lack

Question ID : 9895806171

Chosen Option : --

Q.2
2 Select the most appropriate option to substitute the underlined segment in the given sentence. If there is no need to substitute it, select No improvement.

He do not register his dissent to the proposal put forward by the member.

- Ans
- 1. does not registered his dissent to
 - 2. No improvement
 - 3. did not registered his dissent to
 - 4. did not register his dissent to

Question ID : 9895806158

Chosen Option : --

Q.2
3 From the given options, identify the segment in the sentence which contains the grammatical error.

The department will initiate a campaign to promoting organic farming across the State.

- Ans
- 1. will initiate
 - 2. across the State
 - 3. to promoting
 - 4. organic farming

Question ID : 9895806155

Chosen Option : --

Q.2
4 Select the word which means the same as the group of words given.

A collection of poems

- Ans
- 1. Rhyme

2. Anthology

3. Verse

4. Stanza

Question ID : 9895806174
Chosen Option : --

Q.2 Select the most appropriate option to substitute the underlined segment in the given sentence. If there is no need to substitute it, select No improvement.

Evolution is the gradual change over the physical and mental make up of species.

Ans 1. from the physical and mental make-up of species

2. in the physical and mental make-up of species

3. No improvement

4. on the physical and mental make-up of species

Question ID : 9895806159
Chosen Option : --

Section : Hindi Language

Q.1 दिए गए वाक्य का वह भाग ज्ञात करें जिसमें कोई त्रुटि है।

वनों की अंधाधुंध कटाई से स्वच्छ वायु मिलनी कठिन हो गया है।

Ans 1. कटाई से

2. मिलनी कठिन हो गया है।

3. वनों की अंधाधुंध

4. स्वच्छ वायु

Question ID : 9895805948
Chosen Option : 2

Q.2 दिये गये वाक्यांश के लिए एक शब्द चुनिए।

सदा रहने वाला

Ans 1. सदाशील

2. संविदा

3. सदाचारी

4. शाश्वत

Question ID : 9895805968
Chosen Option : 4

Q.3 रिक्त स्थान को भरने के लिए उपयुक्त शब्द का चयन करें।

चिड़िया पेड़ _____ बैठी है।

Ans 1. बाहर

2. पर

3. भीतर

4. अंदर

Question ID : 9895805955
Chosen Option : 2

Q.4 दिये गये वाक्यांश के लिए एक शब्द चुनिए।

बहुत तीव्र चलने वाला

Ans 1. प्रतिगामी

2. द्रुतगामी

3. अल्पगामी

4. आगामी

Question ID : 9895805969
Chosen Option : 2

Q.5 रिक्त स्थान को भरने के लिए उपयुक्त शब्द का चयन करें।

हम घूमने _____।

Ans 1. देखेंगे

2. जाएँगे

3. गाएँगे

4. चाहेंगे

Question ID : 9895805953
Chosen Option : 2

Q.6 निम्नलिखित में से उस विकल्प का चयन करें जो 'पाँचों उँगलियों घी में होना' मुहावरे का अर्थ व्यक्त करता है।

Ans 1. सब प्रकार से लाभ ही लाभ

2. उँगलियाँ चाटना

3. उँगलियाँ घी में डालकर बैठना

4. हानि होना

Question ID : 9895805966
Chosen Option : 1

Q.7 दिए गए शब्द के पर्यायवाची शब्द का चयन करें।

किनारा

Ans 1. नदी

2. संगम

3. तट

4. गंगा

Question ID : 9895805965
Chosen Option : 3

Q.8 दिए गए वाक्य का वह भाग ज्ञात करें जिसमें कोई त्रुटि है।

सौरभ अपनी नाक का ऊपर मक्खी भी नहीं बैठने देता।

- Ans
- 1. नहीं बैठने देता।
 - 2. सौरभ अपनी
 - 3. नाक का ऊपर
 - 4. मक्खी भी

Question ID : 9895805947
Chosen Option : 3

Q.9 दिए गए शब्द का विलोम चुनें।

सर्वदा

- Ans
- 1. यदा-कदा
 - 2. सब तरफ
 - 3. सदा
 - 4. सरिता

Question ID : 9895805962
Chosen Option : 1

Q.1 0 रिक्त स्थान को भरने के लिए उपयुक्त शब्द का चयन करें।

अच्छे बालक _____ करते हैं।

- Ans
- 1. पढाई
 - 2. चोरी
 - 3. लड़ाई
 - 4. गलिगलौज

Question ID : 9895805954
Chosen Option : 1

Q.1 1 रिक्त स्थान को भरने के लिए उपयुक्त शब्द का चयन करें।

वह आलमारी _____ की बनी है।

- Ans
- 1. कपडा
 - 2. मिट्टी
 - 3. रंग
 - 4. लोहे

Question ID : 9895805952
Chosen Option : 4

Q.1
2 सही वर्तनी वाले शब्द का चयन करें।

- Ans
- 1. पत्रकार
 - 2. पत्रकर
 - 3. पत्राकर
 - 4. पत्रकार

Question ID : 9895805970

Chosen Option : 4

Q.1
3 दिए गए वाक्य में रेखांकित खंड को प्रतिस्थापित करने के लिए उपयुक्त विकल्प का चयन करें।

अक्षरों से बनी लिपियों की महत्त्व है।

- Ans
- 1. लिपियों को महत्त्व है।
 - 2. लिपियों के महत्त्व है।
 - 3. लिपियों का महत्त्व है।
 - 4. लिपियों ने महत्त्व है।

Question ID : 9895805950

Chosen Option : 3

Q.1
4 निम्नलिखित में से उस विकल्प का चयन करें जो 'पाँव जमीन पर न पड़ना' मुहावरे का अर्थ व्यक्त करता है।

- Ans
- 1. अत्यधिक खुश होना
 - 2. आसमान में उड़ना
 - 3. कल्पना करना
 - 4. जमीन से ऊपर पाँव रखना

Question ID : 9895805967

Chosen Option : 3

Q.1
5 दिए गए शब्द के पर्यायवाची शब्द का चयन करें।

पर्वत

- Ans
- 1. पावन
 - 2. भुजंग
 - 3. पवन
 - 4. शैल

Question ID : 9895805964

Chosen Option : 4

Q.1
6 दिए गए वाक्य में रेखांकित खंड को प्रतिस्थापित करने के लिए उपयुक्त विकल्प का चयन करें।

हम जैसे बीज बोते हैं ऐसे ही पेड़ और फल होते हैं।

- Ans
- 1. वैसे ही पेड़ और फल
 - 2. उतना ही पेड़ और फल

3. जैसे ही पेड़ और फल

4. वैसा ही पेड़ और फल

Question ID : 9895805951
Chosen Option : 1

Q.1
7 दिए गए वाक्य का वह भाग ज्ञात करें जिसमें कोई त्रुटि है।

विकास वाहक उपकरणों ने उनके प्रकार का समस्याएँ उत्पन्न कर दी हैं।

Ans 1. विकास वाहक उपकरणों ने

2. उनके प्रकार

3. का समस्याएँ

4. उत्पन्न कर दी हैं।

Question ID : 9895805946
Chosen Option : 3

Q.1
8 सही वर्तनी वाले शब्द का चयन करें।

Ans 1. रूपवान

2. रूपबान

3. रूपवान

4. रूपावन

Question ID : 9895805971
Chosen Option : 3

Q.1
9 दिए गए शब्द का विलोम चुनें।

योग

Ans 1. नीरोग

2. संयोग

3. वियोग

4. आसन

Question ID : 9895805963
Chosen Option : 3

Q.2
0 दिए गए वाक्य में रेखांकित खंड को प्रतिस्थापित करने के लिए उपयुक्त विकल्प का चयन करें।

दादाजी समाचार पत्र पढ़ रहे हैं और दादी जी पूजा कर रहे हैं।

Ans 1. दादी जी पूजा कर रही थे।

2. दादी जी पूजा कर रही हैं।

3. दादी जी पूजा कर रहा है।

4. दादी जी पूजा कर रहे हैं।

Question ID : 9895805949
Chosen Option : 2

Comprehension:

निम्नलिखित गद्यांश के रिक्त स्थानों की पूर्ति गद्यांश के नीचे दिए गए प्रश्नों के अनुसार कीजिए -

आज के युवा कल के भविष्य हैं। देश की उन्नति का आधार युवा वर्ग को ही माना जाता है। युवाओं में इतना _____ (1) एवं शक्ति होती है कि वे किसी भी परेशानी का सामना कर सकते हैं। इनके जीने की अपनी एक अलग _____ (2) होती है। युवा वर्ग में हर समय कुछ नया करने का _____ (3) होता है। आज इन्हीं सब की देन है कि हमारी सेना दिन-प्रतिदिन _____ (4) होती जा रही है। परन्तु कई कारणों से युवाओं में पाश्चात्य संस्कृति का प्रभाव एवं आधुनिक रहन-सहन की धारणा उत्पन्न हो रही है, जिसके कारण वे अपने नैतिक _____ (5) की अवहेलना करने लगे हैं।

SubQuestion No : 21

Q.2
1 गद्यांश में संकेतित रिक्त स्थान (1) के लिए उपयुक्त शब्द होगा -

- Ans
- 1. खुशी
 - 2. शांति
 - 3. साहस
 - 4. पानी

Question ID : 9895805957
Chosen Option : 3

Comprehension:

निम्नलिखित गद्यांश के रिक्त स्थानों की पूर्ति गद्यांश के नीचे दिए गए प्रश्नों के अनुसार कीजिए -

आज के युवा कल के भविष्य हैं। देश की उन्नति का आधार युवा वर्ग को ही माना जाता है। युवाओं में इतना _____ (1) एवं शक्ति होती है कि वे किसी भी परेशानी का सामना कर सकते हैं। इनके जीने की अपनी एक अलग _____ (2) होती है। युवा वर्ग में हर समय कुछ नया करने का _____ (3) होता है। आज इन्हीं सब की देन है कि हमारी सेना दिन-प्रतिदिन _____ (4) होती जा रही है। परन्तु कई कारणों से युवाओं में पाश्चात्य संस्कृति का प्रभाव एवं आधुनिक रहन-सहन की धारणा उत्पन्न हो रही है, जिसके कारण वे अपने नैतिक _____ (5) की अवहेलना करने लगे हैं।

SubQuestion No : 22

Q.2
2

गद्यांश में संकेतित रिक्त स्थान (2) के लिए उपयुक्त

शब्द होगा -

- Ans 1. शैली
 2. तरीका
 3. उत्साह
 4. जिज्ञासा

Question ID : 9895805958
 Chosen Option : 1

Comprehension:

निम्नलिखित गद्यांश के रिक्त स्थानों की पूर्ति गद्यांश के नीचे दिए गए प्रश्नों के अनुसार कीजिए -

आज के युवा कल के भविष्य हैं। देश की उन्नति का आधार युवा वर्ग को ही माना जाता है। युवाओं में इतना _____ (1) एवं शक्ति होती है कि वे किसी भी परेशानी का सामना कर सकते हैं। इनके जीने की अपनी एक अलग _____ (2) होती है। युवा वर्ग में हर समय कुछ नया करने का _____ (3) होता है। आज इन्हीं सब की देन है कि हमारी सेना दिन-प्रतिदिन _____ (4) होती जा रही है। परन्तु कई कारणों से युवाओं में पाश्चात्य संस्कृति का प्रभाव एवं आधुनिक रहन-सहन की धारणा उत्पन्न हो रही है, जिसके कारण वे अपने नैतिक _____ (5) की अवहेलना करने लगे हैं।

SubQuestion No : 23

Q.2
 3 गद्यांश में संकेतित रिक्त स्थान (3) के लिए उपयुक्त

शब्द होगा -

- Ans 1. प्रेम
 2. डर
 3. सपना
 4. आदर

Question ID : 9895805959
 Chosen Option : 3

Comprehension:

निम्नलिखित गद्यांश के रिक्त स्थानों की पूर्ति गद्यांश के नीचे दिए गए प्रश्नों के अनुसार कीजिए -

आज के युवा कल के भविष्य हैं। देश की उन्नति का आधार युवा वर्ग को ही माना जाता है। युवाओं में इतना _____ (1) एवं शक्ति होती है कि वे किसी भी परेशानी का सामना कर सकते हैं। इनके जीने की अपनी एक अलग _____ (2) होती है। युवा वर्ग में हर समय कुछ नया करने का _____ (3) होता है। आज इन्हीं सब की देन है कि हमारी सेना दिन-प्रतिदिन _____ (4) होती जा रही है। परन्तु कई कारणों से युवाओं में पाश्चात्य संस्कृति का प्रभाव एवं आधुनिक रहन-सहन की धारणा उत्पन्न हो रही है, जिसके कारण वे अपने नैतिक _____ (5) की अवहेलना करने लगे हैं।

SubQuestion No : 24

Q.2
4 गद्यांश में संकेतित रिक्त स्थान (4) के लिए उपयुक्त शब्द होगा -

- Ans
- 1. दुर्बल
 - 2. कमजोर
 - 3. मलिन
 - 4. मजबूत

Question ID : 9895805960
Chosen Option : 4

Comprehension:

निम्नलिखित गद्यांश के रिक्त स्थानों की पूर्ति गद्यांश के नीचे दिए गए प्रश्नों के अनुसार कीजिए -

आज के युवा कल के भविष्य हैं। देश की उन्नति का आधार युवा वर्ग को ही माना जाता है। युवाओं में इतना _____ (1) एवं शक्ति होती है कि वे किसी भी परेशानी का सामना कर सकते हैं। इनके जीने की अपनी एक अलग _____ (2) होती है। युवा वर्ग में हर समय कुछ नया करने का _____ (3) होता है। आज इन्हीं सब की देन है कि हमारी सेना दिन-प्रतिदिन _____ (4) होती जा रही है। परन्तु कई कारणों से युवाओं में पाश्चात्य संस्कृति का प्रभाव एवं आधुनिक रहन-सहन की धारणा उत्पन्न हो रही है, जिसके कारण वे अपने नैतिक _____ (5) की अवहेलना करने लगे हैं।

SubQuestion No : 25

Q.2
5 गद्यांश में संकेतित रिक्त स्थान (5) के लिए उपयुक्त शब्द होगा -

- Ans
- 1. फिल्मों

2. कीमतों
3. मूल्यों
4. गानों

Question ID : **9895805961**
Chosen Option : **3**

KD Job Updates

Constable (GD) in CAPFs, NIA, SSF and Rifleman (GD) in Assam Rifles Examination, 2018

Roll No. :	
Registration No.	
Name :	
Exam Venue :	
Exam Time :	9:00 AM - 10:30 AM
Exam Date :	01/03/2019

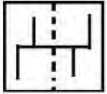
Section : General Section

Q.1 दीया की पढाई में पाँच विषय अर्थात A, B, C, D और E हैं। वह सप्ताह में सोमवार से शुक्रवार तक उनका अध्ययन करती है। प्रत्येक दिन, केवल एक विषय का अध्ययन किया जाएगा। D या E अध्ययन किया जाने वाला पहला या अंतिम विषय नहीं होना चाहिए। E के तुरंत बाद C का अध्ययन किया जाना चाहिए और D के तुरंत बाद B का अध्ययन किया जाना चाहिए। A और B के बीच एक एक विषय का अध्ययन किया जाना चाहिए। फिर सोमवार के बाद वह कौन सा विषय तुरंत पढ़ती है?

- Ans
- 1. B
 - 2. E
 - 3. D
 - 4. A

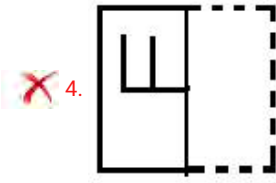
Question ID : 9895808149
Chosen Option : 3

Q.2 A square transparent sheet with a pattern is given. Select from among the four alternatives how the pattern would appear when the transparent sheet is folded at the dotted line.




Ans

- 1.
- 2.
- 3.

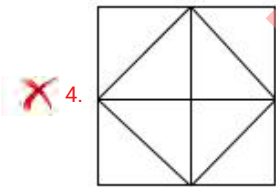
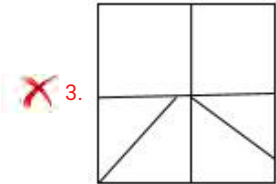
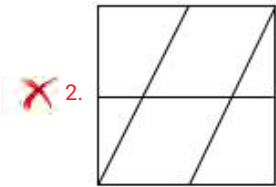
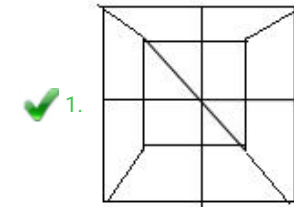


Question ID : 9895808162
Chosen Option : 2

Q.3 उस विकल्प का चयन करें जिसमें दी गई आकृति अंतर्निहित है।



Ans



Question ID : 9895808159
Chosen Option : 1

Q.4 उस विकल्प का चयन करें जो तीसरी संख्या से उसी तरह से संबंधित है जिस प्रकार दूसरी संख्या पहली संख्या से संबंधित है।

9 : 100 :: 13 : _____

- Ans
- 1. 169
 - 2. 144
 - 3. 196
 - 4. 130

Q.5 नीचे दिए गए कथनों के बाद तीन निष्कर्ष I, II और III दिए गए हैं। यह मानते हुए कि कथनों में दी गई जानकारी सत्य है, भले ही वह सर्वज्ञात तथ्यों से भिन्न प्रतीत होती हो और यह निर्णय करें कि कौन सा/से निष्कर्ष तार्किक और निश्चित रूप से कथन में दी गई जानकारी का अनुसरण करता है/करते हैं।

कथन:

सभी गेंदें नाव हैं।
सभी नावें कार हैं।

निष्कर्ष:

- I. कुछ कारें गेंद हैं।
- II. सभी गेंदें कार हैं।
- III. सभी कारें गेंद हैं।

- Ans
1. केवल निष्कर्ष II और III अनुसरण करते हैं।
 2. सभी निष्कर्ष अनुसरण करते हैं।
 3. केवल निष्कर्ष III अनुसरण करता है।
 4. केवल निष्कर्ष I और II अनुसरण करते हैं।

Q.6 शब्दों के चार युग्म दिए गए हैं जिनमें से तीन युग्म किसी न किसी प्रकार से समान हैं, जबकि एक युग्म भिन्न है। असंगत युग्म का चयन करें।

- Ans
1. भालू : शावक
 2. मुर्गा : मुर्गी
 3. शेर : शेरनी
 4. भाई : बहन

Q.7 Choose the option that most closely resembles the mirror image of the given word when mirror is placed at right side.

AIM

- Ans
1. WIA
 2. AIM
 3. AIW
 4. MIA

Q.8 Four words have been given out of which three are alike in some manner, while one is different. Choose the odd one.

- Ans
1. Power
 2. Volume

- 3. Volt
- 4. Force

Question ID : 9895808141
Chosen Option : 3

Q.9 Select the word-pair that is analogous to the given word-pair.

France : Paris

- Ans
- 1. Iran : Rial
 - 2. China : Yuan
 - 3. India : Mumbai
 - 4. Cuba : Havana

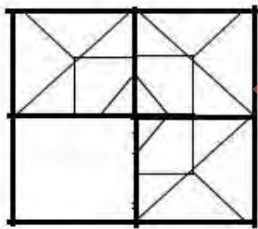
Question ID : 9895808143
Chosen Option : 4

Q.1 यदि SQUARE को TSXEWK के रूप में कूटबद्ध किया जाता है, तो TRIANGLE को किस रूप में कूटबद्ध किया जाएगा।

- Ans
- 1. UTLESNSM
 - 2. UTLFSMSM
 - 3. UTLESMSN
 - 4. UTLESMSM

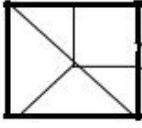
Question ID : 9895808146
Chosen Option : 4

Q.1 निम्नलिखित पैटर्न को पूरा करने के लिए सही विकल्प का चयन करें।



- Ans
- 1.
 - 2.
 - 3.

4.



Question ID : 9895808160

Chosen Option : 1

Q.1 U, V, W, X, Y और Z केंद्र की ओर मुँह करके वृत्ताकार इस तरह बैठे हैं कि प्रत्येक आमने - सामने हों। X, Z और V के बीच में है। U, X के बाएँ से दूसरा और Y के दाएँ से दूसरा है। X के सामने कौन बैठा है?

Ans 1. W

2. Y

3. Z

4. U

Question ID : 9895808147

Chosen Option : 1

Q.1 ₃ निम्नलिखित श्रृंखला में अगले पद का चयन करें।

PC, RF, TI, VL, XO, _____

Ans 1. YR

2. YQ

3. ZR

4. ZQ

Question ID : 9895808139

Chosen Option : 3

Q.1 ₄ निम्नलिखित में से असंगत की पहचान करें।

Ans 1. VXZ

2. CFG

3. PRT

4. HJL

Question ID : 9895808140

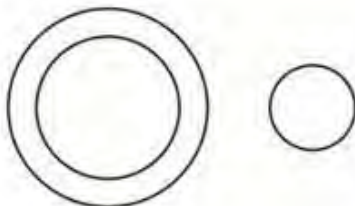
Chosen Option : 2

Q.1 ₅ वेन आरेख का चयन करें जो दिए गए तीन वर्गों के बीच के संबंध को सर्वोत्तम दर्शाता है।

फूल, लाल, कपड़ा

Ans

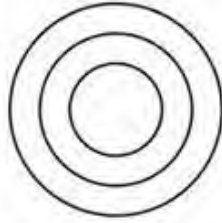
1.



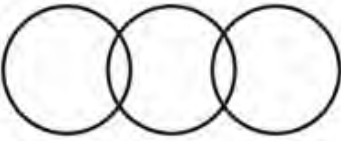
2.



3.



4.



Question ID : 9895808163
Chosen Option : 4

Q.1 ₆ यदि D = 3, G = 6, और FUN = 38, तब PRESIDENT = _____.

- Ans
- 1. 100
 - 2. 119
 - 3. 110
 - 4. 101

Question ID : 9895808145
Chosen Option : 4

Q.1 ₇ उस विकल्प का चयन करें जो सही रूप में रिक्त स्थान को भरे और श्रृंखला को पूरा करें।

$\frac{2}{3}, \frac{4}{5}, \frac{6}{7}, \frac{8}{9}, \frac{10}{11}, \frac{12}{13},$ _____

- Ans
- 1. $\frac{13}{15}$
 - 2. $\frac{14}{15}$
 - 3. $\frac{13}{14}$
 - 4. $\frac{14}{16}$

Question ID : 9895808152
Chosen Option : 2

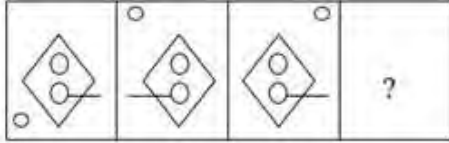
Q.1 ₈ छह मित्र, P, Q, R, S, T और U, केंद्र की ओर मुंह करके एक बंद सर्कल में इस तरह बैठे हैं, कि प्रत्येक एक दूसरे के सामने है। P, S के सामने है। R, P और Q के बीच में है। U, P और T के बीच में है, जो S के दाएं बैठा है। R के ठीक दाएं कौन बैठा है?

- Ans
- 1. S

- 2. P
- 3. T
- 4. Q

Question ID : 9895808148
Chosen Option : 4

Q.1 निम्नलिखित श्रृंखला में आगे आने वाली आकृति का चयन करें।



Ans

- 1.
- 2.
- 3.
- 4.

Question ID : 9895808158
Chosen Option : 3

Q.2 उस संख्या युग्म का चयन करें जो बाकी सब से अलग है।

- 1. 7 - 345
- 2. 9 - 729
- 3. 5 - 125
- 4. 3 - 27

Question ID : 9895808155
Chosen Option : 1

Q.2

1 दिए गए कथनों और निष्कर्षों को ध्यानपूर्वक पढ़ें और तय करें कि कथनों में से कौन सा निष्कर्ष तार्किक रूप से अनुसरण करता है।

कथन:

गेटवे ऑफ इंडिया मुंबई में है।

मुंबई भारत में है।

निष्कर्ष:

गेटवे ऑफ इंडिया भारत में है।

- Ans
- 1. गलत
 - 2. संभवतः गलत
 - 3. संभवतः सही
 - 4. सही

Question ID : 9895808151

Chosen Option : 4

Q.2 उस विकल्प का चयन करें जो तीसरे पद से उसी तरह से संबंधित है जिस प्रकार दूसरा पद पहले पद से संबंधित है।

2
कहाँ : स्थान :: कब : _____

- Ans
- 1. क्यों
 - 2. वहाँ
 - 3. तब
 - 4. समय

Question ID : 9895808144

Chosen Option : 4

Q.2 दिए गए समीकरण को सही बनाने के लिए किन दो चिह्नों को परस्पर बदलना होगा?

3
 $100 \div 10 \times 100 - 10 + 100 = 910$

- Ans
- 1. + और -
 - 2. + और ÷
 - 3. ÷ और ×
 - 4. × और -

Question ID : 9895808156

Chosen Option : 1

Q.2 उस संख्या का चयन करें जो निम्न श्रृंखला से संबंधित नहीं है।

3, 6, 9, 12, 15, 18, 21, 24, 28, 30

- Ans
- 1. 18
 - 2. 28
 - 3. 30
 - 4. 15

Question ID : 9895808153

Chosen Option : 2

Q.2 निम्नलिखित संख्या श्रृंखला में, दो संख्याओं को कोष्ठक के भीतर रखा गया है। श्रृंखला का ध्यानपूर्वक अध्ययन करें और श्रृंखला के संबंध में सही विकल्प का चयन करें।

1, 1, 2, 6, 24, (121), 720, (5040), 40320

Ans

- 1. पहली कोष्ठक संख्या (बाएं से) सही है और दूसरी गलत है।
- 2. दोनों कोष्ठक संख्याएँ सही हैं।
- 3. पहली कोष्ठक संख्या (बाएं से) गलत है और दूसरी सही है।
- 4. दोनों कोष्ठक संख्याएँ गलत हैं।

Question ID : 9895808157

Chosen Option : 3

Q.2 The movement of a horse drawn carriage is an example of which principle of physics?

Ans

- 1. Newton's third law of motion
- 2. Ohm's law
- 3. Archimedes principle
- 4. Avogadro's law

Question ID : 9895807217

Chosen Option : 1

Q.2 मछली में मौजूद राइबोफ्लेविन को _____ के रूप में भी जाना जाता है।

Ans

- 1. विटामिन K
- 2. विटामिन C
- 3. विटामिन B2
- 4. विटामिन B12

Question ID : 9895807218

Chosen Option : 3

Q.2 महान भारतीय खिलाड़ी 'विजय अमृतराज' निम्न में से किस खेल से संबंधित थे?

Ans

- 1. राइफल शूटिंग
- 2. बैडमिंटन
- 3. लॉन टेनिस
- 4. तैराकी

Question ID : 9895807206

Chosen Option : 1

Q.2 Fiscal policy is based on the economic theory given by which of the following economist?

- Ans
- 1. John Nash
 - 2. John Maynard Keynes
 - 3. Adam Smith
 - 4. Milton Friedman

Question ID : 9895807211
Chosen Option : 2

Q.3 दुनिया में किस पर्वत दर्रे पर दुनिया की सबसे ऊँची मोटर वाहन योग्य सड़क है?

- Ans
- 1. शिपकी-ला
 - 2. नाथू-ला
 - 3. डुंगरी-ला
 - 4. जलेप-ला

Question ID : 9895807223
Chosen Option : 2

Q.3 राष्ट्रीय खाद्य सुरक्षा अधिनियम निम्नलिखित में से किस वर्ष में पारित किया गया था?

- Ans
- 1. 2012
 - 2. 2014
 - 3. 2011
 - 4. 2013

Question ID : 9895807213
Chosen Option : 1

Q.3 भारतीय उप-महाद्वीप में पाए जाने वाले 'अजादिराछटा इंडिका' किस सदाबहार पेड़ का वानस्पतिक नाम है?

- Ans
- 1. गुड़हल
 - 2. नीम
 - 3. करी का पेड़
 - 4. देवदार का पेड़

Question ID : 9895807219
Chosen Option : 4

Q.3 'थेयम' निम्नलिखित में से किस राज्य का लोकप्रिय नृत्य है?

- Ans
- 1. कर्नाटक
 - 2. गुजरात
 - 3. केरल

✘ 4. मणिपुर

Question ID : 9895807203

Chosen Option : 3

Q.3 7 वीं शताब्दी के प्रारंभ के साथ, थानेश्वर और कन्नौज के सिंहासन पर कौन विराजमान हुआ?

Ans ✘ 1. चन्द्रगुप्त II

✘ 2. राजेंद्र चोल I

✘ 3. कृष्णदेव

✔ 4. हर्षवर्धन

Question ID : 9895807225

Chosen Option : 3

Q.3 5 फरवरी 2019 की स्थिति के अनुसार विश्व बैंक की मानव पूंजी सूचकांक (HCI) रैंकिंग में भारत का स्थान क्या है?

Ans ✘ 1. 126

✔ 2. 115

✘ 3. 104

✘ 4. 124

Question ID : 9895807224

Chosen Option : 4

Q.3 6 पृथ्वी के वायुमंडल की किस परत में ओजोन परत पाई जाती है?

Ans ✔ 1. समताप मण्डल

✘ 2. बहिर्मंडल

✘ 3. क्षोभ मण्डल

✘ 4. मध्यमण्डल

Question ID : 9895807220

Chosen Option : 1

Q.3 7 प्राकृतिक प्रक्रिया के माध्यम से किसी वस्तु का उत्पादन भारतीय अर्थव्यवस्था के किस क्षेत्र से संबंधित कार्यकलाप है?

Ans ✔ 1. प्राथमिक

✘ 2. चतुर्थक

✘ 3. तृतीयक

✘ 4. द्वितीयक

Question ID : 9895807212

Chosen Option : 1

Q.3 2018 को प्राथमिक सदस्यता की दृष्टि से दुनिया की सबसे बड़ी राजनीतिक पार्टी कौन सी है?

- Ans
- 1. यूके की कंजर्वेटिव पार्टी
 - 2. अमेरिका की डेमोक्रेटिक पार्टी
 - 3. भारतीय जनता पार्टी
 - 4. नेशनल रिपब्लिकन पार्टी यू.एस.

Question ID : 9895807216
Chosen Option : 3

Q.3 निम्नलिखित में से कौन दक्षिण भारत की सबसे लंबी नदी है?

- Ans
- 1. गोदावरी
 - 2. नर्मदा
 - 3. कृष्णा
 - 4. तुंगभद्रा

Question ID : 9895807222
Chosen Option : 3

Q.4 2022 में होने वाले शीतकालीन ओलंपिक खेलों की मेजबानी कौन सा शहर करेगा?

- Ans
- 1. बीजिंग
 - 2. टोक्यो
 - 3. लॉस एंजिलस
 - 4. पेरिस

Question ID : 9895807207
Chosen Option : 3

Q.4 भारतीय इतिहास के मध्यकाल के कवि तुलसीदास जी ने 'रामचरितमानस' किस भाषा में लिखा था?

- Ans
- 1. प्राकृत
 - 2. अवधी
 - 3. पाली
 - 4. संस्कृत

Question ID : 9895807226
Chosen Option : 2

Q.4 दिए गए विकल्पों में से कौन सी बीमारी सुअर से फैलती है?

- Ans
- 1. जीका

2. प्लेग
 3. निपा
 4. स्वाइन फ्लू

Question ID : 9895807221
Chosen Option : 1

Q.4
3 ऐतिहासिक स्मारक 'तलातल घर' निम्नलिखित में से किस भारतीय राज्य में स्थित है?

- Ans 1. ओडिशा
 2. असम
 3. सिक्किम
 4. पश्चिम बंगाल

Question ID : 9895807205
Chosen Option : 3

Q.4
4 Which famous Indian personality is the founder of 'Paani Foundation'?

- Ans 1. Salman Khan
 2. Shah Rukh Khan
 3. Ranveer Singh
 4. Amir Khan

Question ID : 9895807210
Chosen Option : 3

Q.4
5 शीर्षक 'द लीजेंड ऑफ लक्ष्मी प्रसाद' पुस्तक निम्नलिखित में से किस लेखक द्वारा लिखा गया है?

- Ans 1. शोभा डे
 2. झुम्पा लाहिड़ी
 3. ट्विंकल खन्ना
 4. अरुंधति राय

Question ID : 9895807209
Chosen Option : 2

Q.4
6 जनवरी 2019 तक, भारतीय संविधान में अनुच्छेदों की संख्या कितनी है?

- Ans 1. 431
 2. 395
 3. 402
 4. 448

Question ID : 9895807214

Q.4 दिए गए किस वर्ष के उपभोक्ता संरक्षण अधिनियम के स्थान पर उपभोक्ता संरक्षण विधेयक 2018 को पारित किया गया है?

- Ans
- 1. 1986
 - 2. 1991
 - 3. 1981
 - 4. 1978

Question ID : 9895807215
Chosen Option : 1

Q.4 भारत में फ्रांसीसी उपनिवेश की राजधानी क्या थी?

- Ans
- 1. कोचीन
 - 2. पुदुचेरी
 - 3. कालीकट
 - 4. गोवा

Question ID : 9895807227
Chosen Option : 4

Q.4 'हरेली' का त्योहार निम्नलिखित में से किस भारतीय राज्य में मनाया जाता है?

- Ans
- 1. ओडिशा
 - 2. मध्य प्रदेश
 - 3. पंजाब
 - 4. छत्तीसगढ़

Question ID : 9895807204
Chosen Option : 1

Q.5 इंडिगो एयरलाइन्स का सह-संस्थापक कौन है?

- Ans
- 1. राहुल भाटिया
 - 2. वाई. सी. देवेश्वर
 - 3. किरण मजूमदार शॉ
 - 4. पवन मुंजाल

Question ID : 9895807208
Chosen Option : 1

Q.5 'A' पाइप 20 मिनट में एक टैंक खाली कर सकता है। दूसरे पाइप 'B' का व्यास पाइप 'A' के व्यास से दोगुना है। यदि दोनों A और B पाइप टैंक से जुड़े हैं तो टैंक को खाली करने में लगेगा?

Ans

✓ 1. $6\frac{2}{3}$ मिनट

✗ 2. $10\frac{1}{2}$ मिनट

✗ 3. 25 मिनट

✗ 4. 15 मिनट

Question ID : 9895807539

Chosen Option : 1

Q.5 दो संख्याएँ तीसरी संख्या से क्रमशः 20% और 40% अधिक हैं। पहली और दूसरी संख्या का अनुपात है:

Ans ✓ 1. 6:7

✗ 2. 7:6

✗ 3. 5:7

✗ 4. 7:5

Question ID : 9895807547

Chosen Option : 1

Q.5 कितने वर्षों में, एक धनराशि 5% प्रति वर्ष की ब्याज दर पर तिगुनी हो जाएगा?

Ans ✗ 1. 30 वर्ष

✓ 2. 40 वर्ष

✗ 3. 25 वर्ष

✗ 4. 20 वर्ष

Question ID : 9895807537

Chosen Option : 2

Q.5 एक पहिया 4000 बार परिभ्रमण करके 60 km की दूरी तय करता है। पहिये की त्रिज्या है:

Ans ✗ 1. 8.25 m

✗ 2. 8 m

✓ 3. 2.38 m

✗ 4. 4.68 m

Question ID : 9895807543

Chosen Option : 3

Q.5 $25 \text{ of } 4 - 30 + (2^2 + 18)$ का मान क्या है?

Ans ✗ 1. 37

✗ 2. 84

✓ 3. 92

✗ 4. 23

Question ID : 9895807530
Chosen Option : 3

Q.5
6 यदि $(x+y):(x-y)=3:2$, तो $(x^2+y^2):(x^2-y^2)$ का अनुपात होगा:

- Ans
- 1. 5:12
 - 2. 13:12
 - 3. 12:13
 - 4. 24:5

Question ID : 9895807548
Chosen Option : 2

Q.5
7 दुकानदार को ₹46 में एक वस्तु बेचने पर 8% नुकसान होता है। 6% लाभ प्राप्त करने के लिए, वस्तु का विक्रय मूल्य क्या होगा?

- Ans
- 1. ₹56
 - 2. ₹65
 - 3. ₹85
 - 4. ₹53

Question ID : 9895807533
Chosen Option : 4

Q.5
8 एक टीवी ₹8,500 में बेचने पर एक व्यक्ति को 15% का नुकसान होता है। 5% लाभ प्राप्त करने के लिए, टीवी का विक्रय मूल्य क्या होगा?

- Ans
- 1. ₹9,500
 - 2. ₹10,000
 - 3. ₹10,500
 - 4. ₹9,000

Question ID : 9895807534
Chosen Option : 3

Q.5
9 Two numbers are less than a third number by 25 and 36 respectively. The percentage of first number less than second number is:

- Ans
- 1. 11%
 - 2. 18%
 - 3. 52%
 - 4. 61%

Question ID : 9895807536
Chosen Option : 1

Q.6
0

तालिका का ठीक से अध्ययन करें और आंकड़े की व्याख्या करके उत्तर दें।

तालिका में एक राज्य में पांच जिलों में गरीबी रेखा से नीचे जनसंख्या का प्रतिशत और पुरुषों और महिलाओं के अनुपात दर्शाया गया है।

जिला	गरीबी रेखा से नीचे जनसंख्या का प्रतिशत	पुरुषों और महिलाओं के अनुपात	
		गरीबी रेखा से नीचे (M:F)	गरीबी रेखा से ऊपर (M:F)
D1	15	2:3	3:2
D2	18	3:4	7:5
D3	20	2:5	3:4
D4	25	5:2	4:3
D5	12	3:7	2:7

यदि जिला D₄ की कुल जनसंख्या 35000 है, तो जिला D₄ में गरीबी रेखा से ऊपर महिलाओं की संख्या कितनी है?

- Ans
1. 14,240
2. 11,250
3. 12,450
4. 10,500

Question ID : 9895807550

Chosen Option : 2

Q.6 तालिका का ठीक से अध्ययन करें और आंकड़े की व्याख्या करके उत्तर दें।

1 तालिका में एक राज्य में पांच जिलों में गरीबी रेखा से नीचे जनसंख्या का प्रतिशत और पुरुषों और महिलाओं के अनुपात दर्शाया गया है।

जिला	गरीबी रेखा से नीचे जनसंख्या का प्रतिशत	पुरुषों और महिलाओं के अनुपात	
		गरीबी रेखा से नीचे (M:F)	गरीबी रेखा से ऊपर (M:F)
D1	15	2:3	3:2
D2	18	3:4	7:5
D3	20	2:5	3:4
D4	25	5:2	4:3
D5	12	3:7	2:7

यदि जिला D₃ की कुल आबादी 40,000 है, तो जिला D₃ में गरीबी रेखा से नीचे की आबादी क्या है?

- Ans
1. 10,000
2. 5,000
3. 12,000
4. 8,000

Question ID : 9895807551

Chosen Option : 4

Q.6 दो संख्याओं के महत्तम समावर्तक और लघुत्तम समावर्त्य क्रमशः 12 और 240 है। यदि एक संख्या 24 है, तो

2 दूसरी संख्या क्या है?

- Ans
1. 144
2. 228

3. 264

4. 120

Question ID : 9895807528

Chosen Option : 4

Q.6 एक व्यापारी ₹24,500 अंकित मूल्य के सोफा सेट के पर 5% प्रत्येक की दो क्रमिक छूटें देता है। सोफा सेट का विक्री मूल्य है:

Ans 1. ₹22,111.75

2. ₹23,274.75

3. ₹23,275

4. ₹1,163.75

Question ID : 9895807535

Chosen Option : 1

Q.6 एक ट्रेन 72 km/hrs की रफ्तार से चल रही है। ट्रेन द्वारा 15 मिनट में तय की गई दूरी है:

Ans 1. 27 km

2. 28 km

3. 18 km

4. 36 km

Question ID : 9895807541

Chosen Option : 3

Q.6 एक विश्वविद्यालय में, विज्ञान, गणित और भाषा का अध्ययन करने वाले छात्रों की संख्या 2:4:9 के अनुपात में है। यदि विज्ञान, गणित और भाषा के छात्रों की संख्या में क्रमशः 10%, 20% और 40% की वृद्धि की जाती है, तो नया अनुपात क्या होगा?

Ans 1. 63:11:24

2. 12:23:63

3. 24:11:63

4. 11:24:63

Question ID : 9895807546

Chosen Option : 4

Q.6 कक्षा IX में, छह छात्रों के लिए विज्ञान में अंकों का औसत 48 था। परिणाम घोषित होने के बाद, यह एक छात्र के मामले में पाया गया कि अंक 45 को गलती से 54 पढ़ लिया गया था। सही औसत है:

Ans 1. 76.50

2. 46.40

3. 46.50

4. 64.39

Question ID : 9895807532

Chosen Option : 3

Q.6
7 The areas of two squares are 16:9. The ratio of their perimeter is:

- Ans 1. 16:12
 2. 12:16
 3. 9:12
 4. 9:16

Question ID : 9895807545
Chosen Option : 1

Q.6
8 वार्षिक आधार पर चक्रवृद्धि 5% प्रति वर्ष की दर से 2 वर्ष के लिए राशि पर चक्रवृद्धि ब्याज ₹205 है। साधारण ब्याज है:

- Ans 1. ₹210
 2. ₹220
 3. ₹250
 4. ₹200

Question ID : 9895807538
Chosen Option : 4

Q.6
9 तालिका का ठीक से अध्ययन करें और आंकड़े की व्याख्या करके उत्तर दें।
तालिका में एक राज्य में पांच जिलों में गरीबी रेखा से नीचे जनसंख्या का प्रतिशत और पुरुषों और महिलाओं के अनुपात दर्शाया गया है।

जिला	गरीबी रेखा से नीचे जनसंख्या का प्रतिशत	पुरुषों और महिलाओं के अनुपात	
		गरीबी रेखा से नीचे (M:F)	गरीबी रेखा से ऊपर (M:F)
D1	15	2:3	3:2
D2	18	3:4	7:5
D3	20	2:5	3:4
D4	25	5:2	4:3
D5	12	3:7	2:7

D_1 में कुल जनसंख्या 30,000 है। जिला D_1 में गरीबी रेखा के नीचे की महिलाओं की संख्या है:

- Ans 1. 1800
 2. 2700
 3. 2500
 4. 3500

Question ID : 9895807552
Chosen Option : 2

Q.7
0 $30 \div 6 \times 5$ of $(2 + 3) - 12 (3 \times 2)$ का मान निम्न में से किसके बराबर है:

- Ans 1. 82
 2. 28
 3. 53
 4. 35

Question ID : 9895807529
Chosen Option : 3

Q.7 एक कक्षा में, 40 छात्रों की औसत आयु 12 वर्ष है, जब शिक्षक की आयु को इसमें शामिल किया जाता है, तो औसत 1 से बढ़ जाता है। शिक्षक की आयु है:

- Ans
- 1. 51 वर्ष
 - 2. 53 वर्ष
 - 3. 68 वर्ष
 - 4. 48 वर्ष

Question ID : 9895807531
Chosen Option : 2

Q.7 एक आयत का क्षेत्रफल 27m^2 है और इसकी लंबाई इसकी चौड़ाई की 3 गुनी है। आयत की परिधि है:

- Ans
- 1. 28cm
 - 2. 42cm
 - 3. 12cm
 - 4. 24cm

Question ID : 9895807544
Chosen Option : 4

Q.7 दो स्टेशनों के बीच की दूरी 500 km है। एक ट्रेन सुबह 9 बजे स्टेशन 'A' से निकलती है और 60 km/hrs की रफ्तार से स्टेशन 'B' की ओर जाती है। दूसरी ट्रेन सुबह 10 बजे स्टेशन 'B' से निकलती है और 40 km/hrs की रफ्तार से 'A' की ओर जाती है। किस समय पर दोनों ट्रेन एक दूसरे से गुजरेंगी?

- Ans
- 1. 3.36 PM
 - 2. 12.45 PM
 - 3. 2.24 PM
 - 4. 1.36 PM

Question ID : 9895807542
Chosen Option : 3

Q.7 वर्ग अंतराल की ऊपरी सीमा और निचली सीमा के बीच के अंतर को क्या कहा जाता है?

- Ans
- 1. आवृत्ति वितरण
 - 2. वर्ग आकार
 - 3. श्रेणी
 - 4. बहुलक

Question ID : 9895807549
Chosen Option : 3

Q.7 रामा और हरि मिलकर एक काम को 15 दिन में पूरा कर सकते हैं। रामा हरि से दोगुना तेज काम करता है, फिर हरि अकेले यह काम कितने दिनों में पूरा कर सकता है ?

- Ans
- 1. 30 दिन
 - 2. 25 दिन
 - 3. 20 दिन
 - 4. 45 दिन

Question ID : 9895807540
Chosen Option : 4

Section : English Language

Q.1 Select the word which means the same as the group of words given.

A person who is indifferent to the pains and pleasures of life.

- Ans
- 1. Social
 - 2. Introvert
 - 3. Stoic
 - 4. Solitary

Question ID : 9895807874
Chosen Option : 3

Q.2 Select the option that means the same as the given idiom.

Call it a day

- Ans
- 1. Attempting to do an impossible task
 - 2. Agreeing to reveal some secret information
 - 3. Disagreeing on everything someone is saying
 - 4. Decide or agree to stop doing something

Question ID : 9895807871
Chosen Option : 4

Q.3 Select the most appropriate option to substitute the underlined segment in the given sentence. If there is no need to substitute it, select No improvement.

Statistical measure which track the money-saving behaviour haven't improved much.

- Ans
- 1. measure which tracks money-saving behaviours
 - 2. measures which track the money-saving behaviour
 - 3. No improvement
 - 4. measures what track the money-saving behaviour

Question ID : 9895807856
Chosen Option : 2

Q.4 Select the most appropriate option to substitute the underlined segment in the given sentence. If there is no need to substitute it, select No improvement.

Those who are travelling today by train may have delayed in reaching their destinations.

- Ans
- 1. travelling today by train may get delayed
 - 2. No improvement
 - 3. travelling today in train may get delayed
 - 4. travel today by train may get delayed

Question ID : 9895807858
Chosen Option : 1

Q.5 Select the option that means the same as the given idiom.

To hang together

- Ans
- 1. to take a swing in a garden
 - 2. To keep holding on to something
 - 3. To be connected with each other
 - 4. To be over telephone with a friend

Question ID : 9895807872
Chosen Option : 3

Q.6 Select the correctly spelt word.

- Ans
- 1. Budjet
 - 2. Bugett
 - 3. Badjet
 - 4. Budget

Question ID : 9895807876
Chosen Option : 4

Q.7 From the given options, identify the segment in the sentence which contains the grammatical error.

You are invite to build a better community by planting a seed of peace within and a tree outside.

- Ans
- 1. You are invite to
 - 2. build a better community
 - 3. by planting a seed of peace
 - 4. within and a tree outside

Question ID : 9895807853
Chosen Option : 1

Q.8

Select the antonym of the given word.

CONVENE

- Ans
- 1. Summon
 - 2. Gather
 - 3. Request
 - 4. Disperse

Question ID : 9895807869
Chosen Option : 4

Q.9 Select the correctly spelt word.

- Ans
- 1. Supplementary
 - 2. Supplementary
 - 3. Supplimentary
 - 4. Suplementary

Question ID : 9895807875
Chosen Option : 2

Q.1 Select the most appropriate option to fill in the blank.

Whenever he refers to his friends he is pleased but when he talks of his foes he is _____.

- Ans
- 1. serene
 - 2. interested
 - 3. possessed
 - 4. unhappy

Question ID : 9895807860
Chosen Option : 1

Q.1 From the given options, identify the segment in the sentence which contains the grammatical error.

In India, the various practices and norms from bank's transactions are laid down by the RBI only.

- Ans
- 1. by the RBI only
 - 2. are laid down
 - 3. the various practices
 - 4. norms from bank's transactions

Question ID : 9895807855
Chosen Option : 4

Q.1
2

Select the most appropriate option to fill in the blank.

My forefinger is still _____ where I caught it in the door this morning.

- Ans
- 1. bruised
 - 2. burnt
 - 3. damaged
 - 4. scorched

Question ID : 9895807859
Chosen Option : 1

Q.1
3 Select the synonym of the given word.

AFFINITY

- Ans
- 1. Beauty
 - 2. Decency
 - 3. Monotony
 - 4. Empathy

Question ID : 9895807867
Chosen Option : 4

Q.1
4 Select the most appropriate option to substitute the underlined segment in the given sentence. If there is no need to substitute it, select No improvement.

On the academic front you are likely to outshine others and take up a better career.

- Ans
- 1. you are likely for outshine other
 - 2. you should likely to outshine others
 - 3. you were likely to outshine others
 - 4. No improvement

Question ID : 9895807857
Chosen Option : 4

Q.1
5 Select the most appropriate word to fill in the blank.

Your parents may get _____ with your lifestyle and demand a change in it.

- Ans
- 1. pleased
 - 2. annoyed
 - 3. fulfilled
 - 4. satisfied

Question ID : 9895807878
Chosen Option : 2

Q.1
6 From the given options, identify the segment in the sentence which contains the grammatical error.

While we would like all Indian children to go to school, we need to ponder why they does not.

- Ans
- 1. we need to ponder
 - 2. While we would like
 - 3. Indian children to go to school
 - 4. why they does not

Question ID : 9895807854
Chosen Option : 4

Q.1
7 Select the most appropriate word to fill in the blank.

You can master anything by the usual process of learning and practicing it _____.

- Ans
- 1. regularly
 - 2. occasionally
 - 3. temporarily
 - 4. annually

Question ID : 9895807877
Chosen Option : 1

Q.1
8 Select the antonym of the given word.

CONCUR

- Ans
- 1. Distribute
 - 2. Lead
 - 3. Contribute
 - 4. Disagree

Question ID : 9895807870
Chosen Option : 4

Comprehension:

In the following passage some words have been deleted. Fill in the blanks with the help of the alternatives given.

"Success begins in the mind." This is a wonderful quote to explain the power of having (1) _____ in yourself. Since (2) _____ wants success, they all try their best. Sometimes they will (3) _____ failure, but that's what life is. Ups and downs are a part of it. All you need is to take that failure in your (4) _____ learn from it and never forget it. It doesn't matter how or where you come from, success happens to those who (5) _____ hands with difficulties.

SubQuestion No : 19

Q.1
9 Select the most appropriate option that will fill in the blank number 1.

- Ans
- 1. discard
 - 2. faith
 - 3. doubt
 - 4. disgust

Question ID : 9895807862
Chosen Option : 2

Comprehension:

In the following passage some words have been deleted. Fill in the blanks with the help of the alternatives given.

"Success begins in the mind." This is a wonderful quote to explain the power of having (1) _____ in yourself. Since (2) _____ wants success, they all try their best. Sometimes they will (3) _____ failure, but that's what life is. Ups and downs are a part of it. All you need is to take that failure in your (4) _____ learn from it and never forget it. It doesn't matter how or where you come from, success happens to those who (5) _____ hands with difficulties.

SubQuestion No : 20

Q.2
0 Select the most appropriate option that will fill in the blank number 2.

- Ans
- 1. everyone
 - 2. anyone
 - 3. someone
 - 4. each

Question ID : 9895807863
Chosen Option : 1

Comprehension:

In the following passage some words have been deleted. Fill in the blanks with the help of the alternatives given.

"Success begins in the mind." This is a wonderful quote to explain the power of having (1) _____ in yourself. Since (2) _____ wants success, they all try their best. Sometimes they will (3) _____ failure, but that's what life is. Ups and downs are a part of it. All you need is to take that failure in your (4) _____ learn from it and never forget it. It doesn't matter how or where you come from, success happens to those who (5) _____ hands with difficulties.

SubQuestion No : 21

Q.2
1 Select the most appropriate option that will fill in the blank number 3.

- Ans
- 1. see
 - 2. encounter
 - 3. oppose
 - 4. clash

Question ID : 9895807864
Chosen Option : 2

Comprehension:

In the following passage some words have been deleted. Fill in the blanks with the help of the alternatives given.

"Success begins in the mind." This is a wonderful quote to explain the power of having (1) _____ in yourself. Since (2) _____ wants success, they all try their best. Sometimes they will (3) _____ failure, but that's what life is. Ups and downs are a part of it. All you need is to take that failure in your (4) _____ learn from it and never forget it. It doesn't matter how or where you come from, success happens to those who (5) _____ hands with difficulties.

SubQuestion No : 22

Q.2
2 Select the most appropriate option that will fill in the blank number 4.

- Ans
- 1. wing
 - 2. stride
 - 3. walk
 - 4. run

Question ID : 9895807865
Chosen Option : 2

Comprehension:

In the following passage some words have been deleted. Fill in the blanks with the help of the alternatives given.

"Success begins in the mind." This is a wonderful quote to explain the power of having (1) _____ in yourself. Since (2) _____ wants success, they all try their best. Sometimes they will (3) _____ failure, but that's what life is. Ups and downs are a part of it. All you need is to take that failure in your (4) _____ learn from it and never forget it. It doesn't matter how or where you come from, success happens to those who (5) _____ hands with difficulties.

SubQuestion No : 23

Q.2
3 Select the most appropriate option that will fill in the blank number 5.

- Ans
- 1. avoid
 - 2. move
 - 3. see
 - 4. shake

Question ID : 9895807866
Chosen Option : 4

Q.2
4 Select the synonym of the given word.

CUMBERSOME

- Ans
- 1. Heavy
 - 2. Graceful
 - 3. Wonderful
 - 4. Virtuous

Question ID : 9895807868
Chosen Option : 1

Q.2
5 Select the word which means the same as the group of words given.

One who does a thing for pleasure and not as a profession

- Ans
- 1. Amateur

- 2. Volunteer
- 3. Athlete
- 4. Sportsperson

Question ID : 9895807873
Chosen Option : 1

Section : Hindi Language

Q.1 दिए गए शब्द का विलोम चुनें।

व्योम

- Ans
- 1. राजा
 - 2. आकाश
 - 3. धरा
 - 4. पक्षी

Question ID : 9895806647
Chosen Option : --

Q.2 दिए गए वाक्य में रेखांकित खंड को प्रतिस्थापित करने के लिए उपयुक्त विकल्प का चयन करें।

सचिव ने अध्यक्ष के गले में फूलों की एक माला डाली।

- Ans
- 1. सभापति
 - 2. मंत्री
 - 3. निर्देशक
 - 4. समन्वयक

Question ID : 9895806634
Chosen Option : --

Q.3 रिक्त स्थान को भरने के लिए उपयुक्त शब्द का चयन करें।

माँ ने डाँटकर मुझसे _____।

- Ans
- 1. नाचा
 - 2. खाया
 - 3. पूछा
 - 4. भागा

Question ID : 9895806637
Chosen Option : --

Q.4

रिक्त स्थान को भरने के लिए उपयुक्त शब्द का चयन करें।

चोर के पीछे पुलिस भागी _____ उसे पकड़ नहीं पाई।

Ans

- 1. परंतु
- 2. या
- 3. अभी
- 4. अन्यथा

Question ID : 9895806639
Chosen Option : --

Q.5 दिए गए शब्द का विलोम चुनें।

सामान्य

Ans

- 1. विशेष
- 2. आम
- 3. सामने
- 4. अन्य

Question ID : 9895806648
Chosen Option : --

Q.6 दिए गए शब्द के पर्यायवाची शब्द का चयन करें।

स्वर्ण

Ans

- 1. कंचन
- 2. सुमन
- 3. करी
- 4. नीरद

Question ID : 9895806650
Chosen Option : --

Q.7 रिक्त स्थान को भरने के लिए उपयुक्त शब्द का चयन करें।

किसी ने दरवाजा _____ है।

Ans

- 1. बिलबिलाया
- 2. हनहनाया
- 3. खटखटाया
- 4. फड़फड़ाया

Q.8 रिक्त स्थान को भरने के लिए उपयुक्त शब्द का चयन करें।

_____ विद्यार्थियों को पढ़ाता है।

- Ans
- 1. अभियंता
 - 2. बागवान
 - 3. अध्यापक
 - 4. वकील

Q.9 दिए गए वाक्य में रेखांकित खंड को प्रतिस्थापित करने के लिए उपयुक्त विकल्प का चयन करें।

सीता के लव और कुश दो बेटे थे।

- Ans
- 1. प्यारे
 - 2. तनया
 - 3. वत्सला
 - 4. तनय

Q.10 दिए गए वाक्य का वह भाग ज्ञात करें जिसमें कोई त्रुटि है।
आप सायं मेरे घर अवश्य आएँ मैं तुम लोगों को कुछ कीमती पुस्तकें भेंट करूँगा।

- Ans
- 1. मेरे घर अवश्य आएँ
 - 2. मैं तुम लोगों को
 - 3. कुछ कीमती पुस्तकें भेंट करूँगा।
 - 4. आप सायं

Comprehension:

निम्नलिखित गद्यांश के रिक्त स्थानों की पूर्ति गद्यांश के नीचे दिए गए प्रश्नों के अनुसार कीजिए -

नैतिक मूल्यों के माध्यम से राष्ट्र निर्माण की शिक्षा देना शिक्षा व्यवस्था का प्रथम एवं महत्वपूर्ण _____ (1) है। निर्माण शब्द का शाब्दिक अर्थ है किसी रचना को बनाने के लिए एक खाका तैयार करना, आवश्यक _____ (2) जुटाना और कठिन परिश्रम के साथ खाके के अनुसार संरचना तैयार करना। इसी प्रक्रिया में समय लगता है, धैर्य, प्रतीक्षा और _____ (3) की आवश्यकता होती है। शिक्षा राष्ट्र निर्माण का एक उपक्रम है, जिसके माध्यम से हम अधिकतम _____ (4) तक निर्माण कर सकते हैं, बशर्ते कि इसके लिए हमारे प्रयास और _____ (5) मजबूत हों। दूरदृष्टि और नियोजन के बिना रचनात्मक युवा मस्तिष्कों में राष्ट्रनिर्माण का बीज नहीं डाला जा सकता।

SubQuestion No : 11

Q.1
1 गद्यांश में संकेतित रिक्त स्थान (1) के लिए उपयुक्त शब्द होगा

- Ans
- 1. कदम
 - 2. साहस
 - 3. उपदेश
 - 4. दायित्व

Question ID : 9895806642
Chosen Option : --

Comprehension:

निम्नलिखित गद्यांश के रिक्त स्थानों की पूर्ति गद्यांश के नीचे दिए गए प्रश्नों के अनुसार कीजिए -

नैतिक मूल्यों के माध्यम से राष्ट्र निर्माण की शिक्षा देना शिक्षा व्यवस्था का प्रथम एवं महत्वपूर्ण _____ (1) है। निर्माण शब्द का शाब्दिक अर्थ है किसी रचना को बनाने के लिए एक खाका तैयार करना, आवश्यक _____ (2) जुटाना और कठिन परिश्रम के साथ खाके के अनुसार संरचना तैयार करना। इसी प्रक्रिया में समय लगता है, धैर्य, प्रतीक्षा और _____ (3) की आवश्यकता होती है। शिक्षा राष्ट्र निर्माण का एक उपक्रम है, जिसके माध्यम से हम अधिकतम _____ (4) तक निर्माण कर सकते हैं, बशर्ते कि इसके लिए हमारे प्रयास और _____ (5) मजबूत हों। दूरदृष्टि और नियोजन के बिना रचनात्मक युवा मस्तिष्कों में राष्ट्रनिर्माण का बीज नहीं डाला जा सकता।

SubQuestion No : 12

Q.1
2 गद्यांश में संकेतित रिक्त स्थान (2) के लिए उपयुक्त शब्द होगा

- Ans
- 1. संसाधक
 - 2. मनुष्य
 - 3. भीड़
 - 4. संसाधन

Question ID : 9895806643
Chosen Option : --

Comprehension:

निम्नलिखित गद्यांश के रिक्त स्थानों की पूर्ति गद्यांश के नीचे दिए गए प्रश्नों के अनुसार कीजिए -

नैतिक मूल्यों के माध्यम से राष्ट्र निर्माण की शिक्षा देना शिक्षा व्यवस्था का प्रथम एवं महत्वपूर्ण _____ (1) है। निर्माण शब्द का शाब्दिक अर्थ है किसी रचना को बनाने के लिए एक खाका तैयार करना, आवश्यक _____ (2) जुटाना और कठिन परिश्रम के साथ खाके के अनुसार संरचना तैयार करना। इसी प्रक्रिया में समय लगता है, धैर्य, प्रतीक्षा और _____ (3) की आवश्यकता होती है। शिक्षा राष्ट्र निर्माण का एक उपक्रम है, जिसके माध्यम से हम अधिकतम _____ (4) तक निर्माण कर सकते हैं, बशर्ते कि इसके लिए हमारे प्रयास और _____ (5) मजबूत हों। दूरदृष्टि और नियोजन के बिना रचनात्मक युवा मस्तिष्कों में राष्ट्रनिर्माण का बीज नहीं डाला जा सकता।

SubQuestion No : 13

Q.1
3 गद्यांश में संकेतित रिक्त स्थान (3) के लिए उपयुक्त शब्द होगा

- Ans
- 1. काल
 - 2. समय
 - 3. सामग्री
 - 4. परिश्रम

Question ID : 9895806644
Chosen Option : --

Comprehension:

निम्नलिखित गद्यांश के रिक्त स्थानों की पूर्ति गद्यांश के नीचे दिए गए प्रश्नों के अनुसार कीजिए -

नैतिक मूल्यों के माध्यम से राष्ट्र निर्माण की शिक्षा देना शिक्षा व्यवस्था का प्रथम एवं महत्वपूर्ण _____ (1) है। निर्माण शब्द का शाब्दिक अर्थ है किसी रचना को बनाने के लिए एक खाका तैयार करना, आवश्यक _____ (2) जुटाना और कठिन परिश्रम के साथ खाके के अनुसार संरचना तैयार करना। इसी प्रक्रिया में समय लगता है, धैर्य, प्रतीक्षा और _____ (3) की आवश्यकता होती है। शिक्षा राष्ट्र निर्माण का एक उपक्रम है, जिसके माध्यम से हम अधिकतम _____ (4) तक निर्माण कर सकते हैं, बशर्ते कि इसके लिए हमारे प्रयास और _____ (5) मजबूत हों। दूरदृष्टि और नियोजन के बिना रचनात्मक युवा मस्तिष्कों में राष्ट्रनिर्माण का बीज नहीं डाला जा सकता।

SubQuestion No : 14

Q.1
4 गद्यांश में संकेतित रिक्त स्थान (4) के लिए उपयुक्त शब्द होगा

- Ans
- 1. भावना
 - 2. बल
 - 3. बुद्धि
 - 4. सामर्थ्य

Question ID : 9895806645
Chosen Option : --

Comprehension:

निम्नलिखित गद्यांश के रिक्त स्थानों की पूर्ति गद्यांश के नीचे दिए गए प्रश्नों के अनुसार कीजिए -

नैतिक मूल्यों के माध्यम से राष्ट्र निर्माण की शिक्षा देना शिक्षा व्यवस्था का प्रथम एवं महत्वपूर्ण _____ (1) है। निर्माण शब्द का शाब्दिक अर्थ है किसी रचना को बनाने के लिए एक खाका तैयार करना, आवश्यक _____ (2) जुटाना और कठिन परिश्रम के साथ खाके के अनुसार संरचना तैयार करना। इसी प्रक्रिया में समय लगता है, धैर्य, प्रतीक्षा और _____ (3) की आवश्यकता होती है। शिक्षा राष्ट्र निर्माण का एक उपक्रम है, जिसके माध्यम से हम अधिकतम _____ (4) तक निर्माण कर सकते हैं, बशर्ते कि इसके लिए हमारे प्रयास और _____ (5) मजबूत हों। दूरदृष्टि और नियोजन के बिना रचनात्मक युवा मस्तिष्कों में राष्ट्रनिर्माण का बीज नहीं डाला जा सकता।

SubQuestion No : 15

Q.1
5 गद्यांश में संकेतित रिक्त स्थान (5) के लिए उपयुक्त शब्द होगा

- Ans
- 1. सपना
 - 2. महत्वाकांक्षा
 - 3. इच्छाशक्ति
 - 4. कपलना

Question ID : 9895806646
Chosen Option : --

Q.1
6 निम्नलिखित में से उस विकल्प का चयन करें जो 'जान हथेली पर रखना' मुहावरे का अर्थ व्यक्त करता है।

- Ans
- 1. सुविधाजनक कार्य करना
 - 2. जान को हथेली के उपर रखना
 - 3. जीवन को संकट में डालना
 - 4. जान कीमती होना

Question ID : 9895806652
Chosen Option : --

Q.1
7 दिए गए वाक्य का वह भाग जात करें जिसमें कोई त्रुटि है।

पहले दो दिन तो सुधा ने कृष्णा को सामने से गुजरते देखा था लेकिन वह तो तड़के ही निकल जाता था।

- Ans
- 1. निकल जाता था।

2. लेकिन वह तो तड़के ही
3. पहले दो दिन तो सुधा ने
4. कृष्णा को सामने से गुजरते देखा था

Question ID : 9895806631
Chosen Option : --

Q.1
8 दिए गए शब्द के पर्यायवाची शब्द का चयन करें।

महादेव

- Ans 1. ब्रह्मा
2. कृष्ण
3. विष्णु
4. शंकर

Question ID : 9895806649
Chosen Option : --

Q.1
9 सही वर्तनी वाले शब्द का चयन करें।

- Ans 1. वीध्वांस
2. विधवंस
3. विध्वांस
4. विध्वंस

Question ID : 9895806655
Chosen Option : --

Q.2
0 दिये गये वाक्यांश के लिए एक शब्द दीजिये।

जिसे जीता न जा सके

- Ans 1. अजर
2. अविस्मरणीय
3. अजेय
4. अनंत

Question ID : 9895806654
Chosen Option : --

Q.2
1 दिए गए वाक्य का वह भाग जात करें जिसमें कोई त्रुटि है।

मैंने राम को सभी महत्वपूर्ण प्रश्नों के उत्तर बताए परन्तु उसे कुछ समझ में न आया।

Ans

- 1. मैंने राम को
- 2. सभी महत्वपूर्ण प्रश्नों के
- 3. उसे कुछ समझ मैं न आया।
- 4. उत्तर बताए परन्तु

Question ID : 9895806632
Chosen Option : --

Q.2
2 निम्नलिखित में से उस विकल्प का चयन करें जो 'फूँक-फूँक कर कदम रखना' मुहावरे का अर्थ व्यक्त करता है।

Ans

- 1. तनिक भी अच्छा न लगना
- 2. फूँक मार कर कदम बढ़ाना
- 3. सोच समझ कर काम करना
- 4. आवेग में काम करना

Question ID : 9895806651
Chosen Option : --

Q.2
3 सही वर्तनी वाले शब्द का चयन करें।

Ans

- 1. श्रद्धालु
- 2. शर्धालू
- 3. श्रद्धालू
- 4. श्रद्धलु

Question ID : 9895806656
Chosen Option : --

Q.2
4 दिये गये वाक्यांश के लिए एक शब्द दीजिये।

जिसे भुलाया न जा सके

Ans

- 1. विस्मरणीय
- 2. भूलनीय
- 3. अज्ञेय
- 4. अविस्मरणीय

Question ID : 9895806653
Chosen Option : --

Q.2
5

दिए गए वाक्य में रेखांकित खंड को प्रतिस्थापित करने के लिए उपयुक्त विकल्प का चयन करें।

तुम्हारी बातों का कोई प्रमाण नहीं है।

Ans

- 1. सत्य
- 2. साक्ष्य
- 3. उदाहरण
- 4. तर्क

Question ID : 9895806636

Chosen Option : --

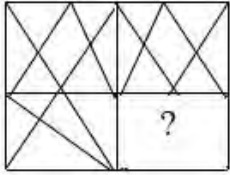
KD Job Updates

Constable (GD) in CAPFs, NIA, SSF and Rifleman (GD) in Assam Rifles Examination, 2018





Roll No. :	
Name :	
Exam Venue :	
Exam Time :	12:30 PM - 2:00 PM
Exam Date :	01/03/2019

Section : General Section

Q.1 निम्नलिखित पैटर्न को पूरा करने के लिए सही विकल्प का चयन करें।



Ans

1. 
2. 
3. 
4. 

Question ID : 9895808185
Chosen Option : 4

Q.2 निम्नलिखित श्रृंखला में अगले पद का चयन करें।

BMO, EOQ, HQS, KSU, _____

Ans

1. 
2. 
3. 
4. 

Question ID : 9895808164
Chosen Option : 2

Q.3 शब्दों के चार युग्म दिए गए हैं जिनमें से तीन युग्म किसी न किसी प्रकार से समान हैं, जबकि एक युग्म भिन्न है। असंगत युग्म का चयन करें।

Ans

- ✓ 1. पवन : टैसोमीटर
✗ 2. आर्द्रता : हाइग्रोमीटर
✗ 3. विद्युत् धारा : एमीटर
✗ 4. दूरी : ओडोमीटर

Question ID : 9895808167
Chosen Option : 1

Q.4 निम्नलिखित श्रृंखला में अगली संख्या का चयन करें।

1, 5, 9, 17, 25, 37, 49, 65, 81, _____

Ans

- ✗ 1. 110
✓ 2. 101
✗ 3. 100
✗ 4. 99

Question ID : 9895808177
Chosen Option : 2

Q.5 छह दोस्त, अनीता, पुनीता, चित्रा, दीप्ति, हरिनी और वाणी, एक मैदान में बैठे हैं। अनीता और पुनीता ग्रीन हाउस से हैं, जबकि बाकी रेड हाउस से हैं। दीप्ति और वाणी लंबी हैं, जबकि अन्य छोटी हैं। अनीता, चित्रा और दीप्ति ने साड़ी पहन रखी है, जबकि अन्य ने फ्रॉक पहन रखी है।

उनमें से कौन लंबी है और रेड हाउस से है लेकिन साड़ी नहीं पहनी है?

Ans

- ✗ 1. चित्रा
✓ 2. वाणी
✗ 3. दीप्ति
✗ 4. अनीता

Question ID : 9895808174
Chosen Option : 2

Q.6 दिए गए समीकरण को सही बनाने के लिए किन दो संकेतों / संख्याओं परस्पर बदला जाना चाहिए?

$$8 \div 2 + 4 = 10$$

Ans

- ✗ 1. + और ÷, 8 और 2
✗ 2. ÷ और +, 8 और 4
✓ 3. + और ÷, 2 और 4
✗ 4. ÷ और +

Question ID : 9895808181
Chosen Option : 3

Q.7

उस विकल्प का चयन करें जो तीसरे पद से उसी प्रकार संबंधित है जिस प्रकार दूसरा पद पहले पद से संबंधित है।

आदमी : स्तनपायी :: तितली : _____

Ans

- 1. चिड़िया
- 2. कीट
- 3. सरीसृप
- 4. सूंडी (कैटरपिलर)

Question ID : 9895808169
Chosen Option : 2

Q.8 सात मित्र - अजित, बाला, हरि, डेविड, राजा, सेकर और गुना - एक गोल मेज के चारों ओर बैठे हैं। डेविड हरि और राजा का पड़ोसी नहीं है। अजित बाला और हरि के पड़ोसी हैं। गुना, जो डेविड के बाएँ ओर दूसरे स्थान पर है, सेकर और राजा का पड़ोसी है।

हरि की स्थिति क्या है?

Ans

- 1. बाला के बाएँ ओर दूसरा
- 2. राजा के ठीक दाएँ ओर
- 3. सेकर के बाएँ ओर तीसरा
- 4. अजित के ठीक बाएँ ओर

Question ID : 9895808172
Chosen Option : 3

Q.9 दिए गए कथनों और निष्कर्षों को ध्यानपूर्वक पढ़ें और निर्णय लें कि दिए गए निष्कर्ष के संबंध में निम्नलिखित में से कौन सा विकल्प सही है।

कथन :

सुंदर दिखने वाले पुरुष आम तौर पर बौद्धिक प्रकार के होते हैं।

विक्रम सुंदर हैं।

निष्कर्ष :

विक्रम बौद्धिक हैं।

Ans

- 1. संभवतः असत्य
- 2. संभवतः सत्य
- 3. सत्य
- 4. असत्य

Question ID : 9895808176
Chosen Option : 4

Q.10 निम्नलिखित में से असंगत को पहचानें।

Ans

- 1. prt
- 2. bdf
- 3. suw

✓ 4. kmn

Question ID : 9895808165
Chosen Option : 4

Q.1 1 उस विकल्प का चयन करें जो दर्पण के दायीं ओर रखे जाने पर दिए गए शब्द की दर्पण छवि से सर्वाधिक मेल खाता है।

NATION

- Ans
- ✗ 1. IATION
 - ✗ 2. NOITAN
 - ✗ 3. NATION
 - ✓ 4. IOITAI

Question ID : 9895808186
Chosen Option : 4

Q.1 2 नीचे दिए गए कथनों के बाद दो निष्कर्ष I और II दिए गए हैं। यह मानते हुए कि कथनों में दी गई जानकारी सत्य है, भले ही वह सर्वज्ञात तथ्यों से भिन्न प्रतीत होती हो और यह निर्णय करें कि कौन सा/से निष्कर्ष तार्किक और निश्चित रूप से कथन में दी गई जानकारी का अनुसरण करता है/करते हैं।

कथन:

कुछ लड़कियां महिलाएं हैं।

कोई भी महिला भूरी नहीं है।

निष्कर्ष:

- I. कुछ लड़कियां भूरी नहीं हैं।
- II. कुछ महिलाएं लड़कियां हैं।

- Ans
- ✓ 1. दोनों निष्कर्ष I और II अनुसरण करते हैं।
 - ✗ 2. न तो निष्कर्ष I और न ही निष्कर्ष II अनुसरण करता है।
 - ✗ 3. केवल निष्कर्ष I अनुसरण करता है।
 - ✗ 4. केवल निष्कर्ष II अनुसरण करता है।

Question ID : 9895808175
Chosen Option : 4

Q.1 3 उस विकल्प का चयन करें जो तीसरे पद से उसी प्रकार संबंधित है जिस प्रकार दूसरा पद पहले पद से संबंधित है।

KN : $\frac{121}{196}$:: RU : _____

- Ans
- ✗ 1. $\frac{256}{196}$
 - ✗ 2. $\frac{324}{144}$
 - ✓ 3. $\frac{324}{441}$
 - ✗ 4. $\frac{256}{400}$

Question ID : 9895808179

Q.1 चार शब्द दिए गए हैं, जिनमें से तीन किसी तरह से समान हैं, जबकि एक अलग है। असंगत शब्द चुनें।

- Ans
- 1. मधुमुखी का छत्ता
 - 2. कुत्ता-घर
 - 3. सूअर-बाड़ा
 - 4. शावक

Question ID : 9895808166

Chosen Option : 4

Q.1 यदि E को F से निरूपित किया जाता है, D को B से निरूपित किया जाता है, R को K से निरूपित किया जाता है, U को V से निरूपित किया जाता है, T को I से निरूपित किया जाता है, A को C से निरूपित किया जाता है, G को X से निरूपित किया जाता है और H को W से निरूपित किया जाता है, तब DAUGHTER शब्द कैसे लिखा जाएगा?

- Ans
- 1. BCVXWIKF
 - 2. BCWXVIFK
 - 3. BCVXWIFK
 - 4. BCWXWFIK

Question ID : 9895808171

Chosen Option : 3

Q.1 निम्नलिखित भिन्न श्रृंखला में, कोष्ठक के भीतर दो भिन्न रखे गए हैं। श्रृंखला का ध्यानपूर्वक अध्ययन करें और श्रृंखला के संबंध में सही विकल्प का चयन करें।

$$\frac{2}{\sqrt{5}}, \frac{4}{5}, \frac{6}{5\sqrt{5}}, \left(\frac{8}{25}\right), \frac{10}{25\sqrt{5}}, \frac{12}{125}, \left(\frac{14}{125\sqrt{5}}\right)$$

- Ans
- 1. कोष्ठक में रखा गया पहला भिन्न (बाएं से) गलत है और दूसरा सही है।
 - 2. कोष्ठक में रखा गया पहला भिन्न (बाएं से) सही है और दूसरा गलत है।
 - 3. कोष्ठक में रखे गए दोनों भिन्न सही हैं।
 - 4. कोष्ठक में रखे गए दोनों भिन्न गलत हैं।

Question ID : 9895808182

Chosen Option : 3

Q.1 यदि SCIENCE को 14 के रूप में कूटबद्ध किया जाता है तथा MATHS को 10 के रूप में कूटबद्ध किया जाता है, तो EXAMINATION के लिए कूट क्या होगा?

- Ans
- 1. 22
 - 2. 21
 - 3. 11
 - 4. 23

Question ID : 9895808170

Chosen Option : 1

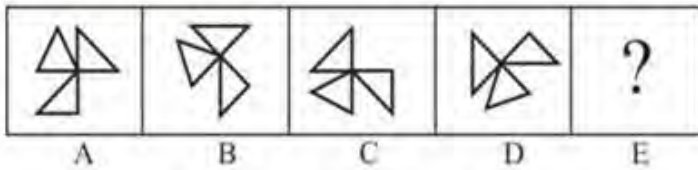
Q.1
8 उस संख्या का चयन करें जो निम्न समूह से संबंधित नहीं है।

1, 2, 6, 21, 88, 446, 2676

- Ans
- 1. 88
 - 2. 6
 - 3. 446
 - 4. 21

Question ID : 9895808178
Chosen Option : 4

Q.1
9 निम्नलिखित श्रृंखला में आगे आने वाली आकृति का चयन करें।



- Ans
- 1.
 - 2.
 - 3.
 - 4.

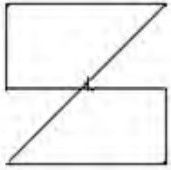
Question ID : 9895808183
Chosen Option : 1

Q.2
0 सात छात्र एक पंक्ति में खड़े हैं। B, C के बाएँ और A के दाएँ खड़ा है। D, E के दाएँ और A के बाएँ और खड़ा है। F, C के दाएँ और और G के बाएँ और खड़ा है। कौन बीच में खड़ा है?

- Ans
- 1. G
 - 2. D
 - 3. B
 - 4. F

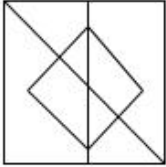
Question ID : 9895808173
Chosen Option : 3

Q.2
1 उस विकल्प का चयन करें जिसमें दी गई आकृति अंतर्निहित है।

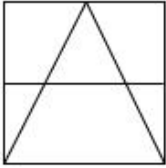


Ans

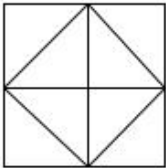
1.



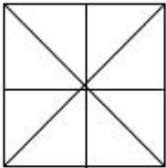
2.



3.



4.



Question ID : 9895808184

Chosen Option : 4

Q.2
2 उस संख्या युग्म का चयन करें जो बाकी सब से अलग हो।

Ans 1. 16 - 256

2. 7 - 49

3. 12 - 144

4. 13 - 196

Question ID : 9895808180

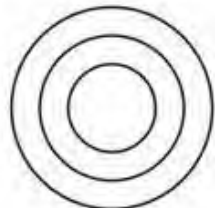
Chosen Option : 4

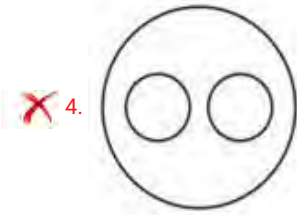
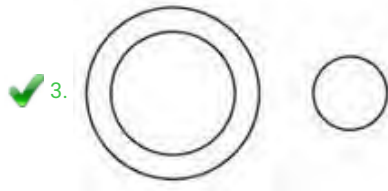
Q.2
3 वेन आरेख का चयन करें जो तीन दिए गए वर्गों के बीच के संबंध को सर्वोत्तम दर्शाता है।

गाजर, सब्जी , मांस

Ans

1.





Question ID : 9895808188
Chosen Option : 3

Q.2 4 उस शब्द-युग्म का चयन करें जो दिए गए शब्द-युग्म के अनुरूप है।

पक्षी : उडान

Ans

1. मवेशी : झुंड

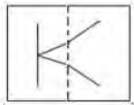
2. बिल्ली : बिलौटा

3. फ़ॉक्स : विक्सेन

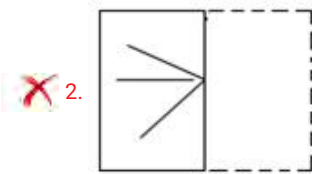
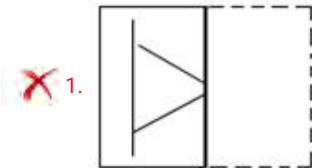
4. घोड़ा : चौकड़ी

Question ID : 9895808168
Chosen Option : 4

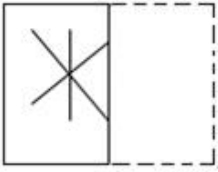
Q.2 5 एक पैटर्न के साथ एक वर्गाकार पारदर्शी शीट दी गई है। चार विकल्पों में से यह चयन करें कि पारदर्शी शीट को बिंदुंकित रेखा पर मोड़ने पर पैटर्न कैसा दिखाई देगा।



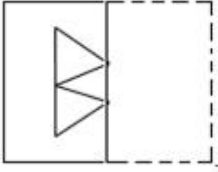
Ans



✗ 3.



✓ 4.



Question ID : 9895808187
Chosen Option : 4

Q.2
6 103वाँ संवैधानिक संशोधन किससे संबंधित है?

Ans

- ✓ 1. आर्थिक आरक्षण
- ✗ 2. महिला आरक्षण
- ✗ 3. शिक्षा का अधिकार
- ✗ 4. शोषण के खिलाफ अधिकार

Question ID : 9895807240
Chosen Option : 1

Q.2
7 प्रागैतिहासिक काल के पहले युग को क्या कहा जाता है?

Ans

- ✗ 1. नवपाषाण युग
- ✗ 2. धातु युग
- ✗ 3. ताम्र पाषाण युग
- ✓ 4. पुरापाषाण काल

Question ID : 9895807250
Chosen Option : 1

Q.2
8 फ्रांस यात्री फ्रांस्वा बर्नियर किस वर्ष भारत आया?

Ans

- ✗ 1. 1656
- ✗ 2. 1678
- ✓ 3. 1658
- ✗ 4. 1662

Question ID : 9895807251
Chosen Option : 4

Q.2
9 राजकोषीय नीति के रूप में कर कटौती द्वारा विकास को बढ़ावा देने की कोशिश करते हुए, सरकार किस प्रकार की नीति का अनुसरण करने की कोशिश कर रही है?

Ans

- 1. सुलभ मुद्रा
- 2. संकुचनकारी
- 3. विस्तारवादी
- 4. दुर्लभ मुद्रा

Question ID : 9895807236
Chosen Option : 2

Q.3
0 मछली के समूह को कहा जाता है:

- Ans
- 1. स्टैन्डर्ड
 - 2. बस
 - 3. सेना
 - 4. स्कूल

Question ID : 9895807244
Chosen Option : 4

Q.3
1 नमक सत्याग्रह आंदोलन के लिए महात्मा गांधी ने लगभग कितनी दूरी तय की थी?

- Ans
- 1. 350 मील
 - 2. 400 मील
 - 3. 241 मील
 - 4. 123 मील

Question ID : 9895807252
Chosen Option : 1

Q.3
2 अजमेर में उर्स महोत्सव किस सूफ़ी संत की पुण्यतिथि के रूप में मनाया जाता है?

- Ans
- 1. ख्वाजा मोइनुद्दीन चिश्ती
 - 2. सलीम चिश्ती
 - 3. हजरत निजामुद्दीन
 - 4. मियां मीर

Question ID : 9895807229
Chosen Option : 1

Q.3
3 'खो खो' का रन-एंड-टच खेल किस भारतीय राज्य में शुरू हुआ?

- Ans
- 1. केरल
 - 2. महाराष्ट्र

3. गोवा

4. जम्मू और कश्मीर

Question ID : 9895807231
Chosen Option : 1

Q.3
4 बादशाह अकबर ने बुलंद दरवाजा किस वर्ष बनवाया था?

Ans 1. 1534

2. 1502

3. 1526

4. 1601

Question ID : 9895807230
Chosen Option : 4

Q.3
5 चीन का राष्ट्रीय खेल कौन सा है?

Ans 1. क्रिकेट

2. फुटबाल

3. टेबल टेनिस

4. रग्बी

Question ID : 9895807232
Chosen Option : 3

Q.3
6 अंडे की जर्दी (पीला भाग) में कौन सा 90% से अधिक विटामिन होता है?

Ans 1. विटामिन B12

2. विटामिन K

3. विटामिन C

4. विटामिन A

Question ID : 9895807243
Chosen Option : 3

Q.3
7 भारतीय सूचना प्रौद्योगिकी की दिग्गज कंपनी इन्फोसिस के प्रसिद्ध सह-संस्थापक और सेवानिवृत्त अध्यक्ष कौन थे?

Ans 1. आशीष गोयल

2. नवनीत सिंह

3. एन आर नारायण मूर्ति

4. याशिष दहिया

Question ID : 9895807233

Q.3
8 अंतर्राष्ट्रीय पर्वतीय दिवस किस तारीख को मनाया जाता है?

- Ans
- 1. 11 दिसंबर
 - 2. 13 जनवरी
 - 3. 14 नवंबर
 - 4. 2 अक्टूबर

Question ID : 9895807248

Chosen Option : 1

Q.3
9 जम्मू और कश्मीर का संविधान किस वर्ष अपनाया गया?

- Ans
- 1. 1954
 - 2. 1950
 - 3. 1956
 - 4. 1958

Question ID : 9895807239

Chosen Option : 3

Q.4
0 सीसाँ (seesaw) भौतिकी के किस सिद्धान्त का एक उदाहरण है?

- Ans
- 1. बल
 - 2. विद्युत
 - 3. विद्युत धारा
 - 4. समय

Question ID : 9895807242

Chosen Option : 2

Q.4
1 ब्रेटन वुड्स समझौते ने निम्नलिखित में से किस संस्थान का निर्माण किया?

- Ans
- 1. अंतर्राष्ट्रीय श्रमिक संगठन
 - 2. संयुक्त राष्ट्र
 - 3. अंतर्राष्ट्रीय मुद्रा कोष
 - 4. संयुक्त राष्ट्र शैक्षिक, वैज्ञानिक और सांस्कृतिक संगठन

Question ID : 9895807237

Chosen Option : 3

Q.4
2 निम्नलिखित में से कौन सी छूत की बीमारी है?

- Ans
- 1. क्षय
 - 2. दमा
 - 3. स्ट्रोक
 - 4. मधुमेह

Question ID : 9895807246
Chosen Option : 1

Q.4
3 'फ्लाइट ऑफ पीजन' पुस्तक के लेखक कौन हैं?

- Ans
- 1. गीता पीरामल
 - 2. शोभा डे
 - 3. रस्किन बॉन्ड
 - 4. सुधा मूर्ति

Question ID : 9895807234
Chosen Option : 1

Q.4
4 जीवित जड़ सेतु भारत के किस राज्य में देखी जाने वाली एक दुर्लभ पारिस्थितिक दृश्य है?

- Ans
- 1. मिजोरम
 - 2. पश्चिम बंगाल
 - 3. सिक्किम
 - 4. मेघालय

Question ID : 9895807245
Chosen Option : 3

Q.4
5 भारतीय खाद्य निगम (FCI) के माध्यम से भारत सरकार द्वारा किसानों से खरीदे गए खाद्यान्न के भंडार को क्या कहते हैं?

- Ans
- 1. सव्विसडी वाला स्टॉक
 - 2. प्रोत्साहन-प्राप्त स्टॉक
 - 3. बफर स्टॉक
 - 4. रिटर्न स्टॉक

Question ID : 9895807238
Chosen Option : 3

Q.4
6 निम्नलिखित में से कौन यूरोप की सबसे लंबी नदी है?

- Ans
- 1. सेपिक
 - 2. मेकांग

3. वोल्गा

4. ज़ाम्बज़ी

Question ID : 9895807247
Chosen Option : 3

Q.4
7 विश्व जनसंख्या दिवस किस दिन मनाया जाता है?

Ans 1. 5 सितंबर

2. 11 जुलाई

3. 15 अगस्त

4. 2 जून

Question ID : 9895807249
Chosen Option : 2

Q.4
8 निम्नलिखित में से किसे राजीव गांधी राष्ट्रीय सद्भावना पुरस्कार 2018 से सम्मानित किया गया है?

Ans 1. मेधा पाटकर

2. अन्ना हजारे

3. गोपालकृष्ण गांधी

4. कैलास सत्यार्थी

Question ID : 9895807235
Chosen Option : 3

Q.4
9 लोकप्रिय 'कुणबी नृत्य' किस भारतीय राज्य से संबंधित है?

Ans 1. मिजोरम

2. सिक्किम

3. जम्मू और कश्मीर

4. गोवा

Question ID : 9895807228
Chosen Option : 1

Q.5
0 निम्नलिखित में से किस राष्ट्र के संविधान से प्रेरित होकर भारत ने अपने संविधान में 'निर्देशक सिद्धांतों' की विशेषता जोड़ी है?

Ans 1. रूस

2. आयरलैंड

3. जर्मनी

4. संयुक्त राज्य अमेरिका

Question ID : 9895807241
Chosen Option : 2

Q.5 एक हॉल 15 m लंबा और 12 m चौड़ा है। यदि फर्श और छत के क्षेत्रफलों का योग चार दीवारों के क्षेत्रफलों के योग के बराबर है, तो हॉल का आयतन (m^3 में) है:

- Ans
- 1. 900
 - 2. 1200
 - 3. 720
 - 4. 1600

Question ID : 9895807574
Chosen Option : 2

Q.5 मामला A, एक दुकान में लाभ लागत का 340% है। मामला B, यदि लागत 32% बढ़ जाती है, लेकिन विक्रय मूल्य स्थिर रहता है, तो मामला A, में विक्रय मूल्य का लगभग कितना प्रतिशत लाभ है?

- Ans
- 1. 32%
 - 2. 70%
 - 3. 320%
 - 4. 100%

Question ID : 9895807562
Chosen Option : 2

Q.5 $\frac{1}{3}$ से 80 तक की संख्याओं में कितने प्रतिशत संख्याओं में इकाई अंक 1 या 9 हैं?

- Ans
- 1. 14%
 - 2. 21%
 - 3. 20%
 - 4. 1%

Question ID : 9895807560
Chosen Option : 2

Q.5 एक ट्रेन एक कार की तुलना में 50% तेजी से यात्रा कर सकती है। दोनों एक ही समय बिंदु A से शुरू होते हैं और एक ही समय बिंदु A से 60 km दूर बिंदु B तक पहुंचते हैं। हालांकि, स्टेशनों पर रुकने के दौरान ट्रेन को लगभग 12.5 मिनट का नुकसान हुआ। कार की गति है:

- Ans
- 1. 100 km/h
 - 2. 96 km/h
 - 3. 130 km/h
 - 4. 110 km/h

Question ID : 9895807571
Chosen Option : 3

Q.5 यदि $x, x + 4, x + 5, x + 7, x + 9$ अवलोकन (observations) का माध्य 9 है, तो अंतिम तीन अवलोकनों का माध्य होगा:

- Ans 1. 11
 2. 10
 3. 8
 4. 7

Question ID : 9895807559
Chosen Option : 1

Q.5 6% प्रति वर्ष की दर से ₹40,000 पर चक्रवृद्धि ब्याज ₹4,944 है। वह अवधि (वर्षों में) कितनी है, जिसके लिए राशि
6 निवेश की गई है?

- Ans 1. 2 वर्ष
 2. 4 वर्ष
 3. 5 वर्ष
 4. 3 वर्ष

Question ID : 9895807567
Chosen Option : 4

Q.5 यदि 15 श्रमिक 10 दिनों में ₹1,800 कमा सकते हैं। 8 दिनों में 5 श्रमिकों की अर्जित राशि (₹) में जात करें।
7

- Ans 1. 480
 2. 360
 3. 400
 4. 540

Question ID : 9895807568
Chosen Option : 1

Q.5 रमन ने 9 वर्ष के बाद साधारण ब्याज के रूप में ₹13,300 का भुगतान किया। उन्होंने पहले दो वर्षों के लिए 6% की
8 दर से, अगले तीन वर्षों के लिए 9% और बाकी की अवधि के लिए 14% पर कुछ रकम उधार ली थी। उसने कितनी
रकम (₹ में) उधार ली थी?

- Ans 1. 12,000
 2. 12,500
 3. 10,000
 4. 14,000

Question ID : 9895807566
Chosen Option : 2

Q.5 A, B और C एक कार्य क्रमशः 20, 40 और 80 दिनों में कर सकते हैं। यदि A को B और C द्वारा हर तीसरे दिन
9 सहायता प्रदान की जाती है, तो A कितने दिनों में कार्य कर सकता है?

- Ans 1. 15 दिन
 2. 16 दिन
 3. 18 दिन

✗ 4. 7 दिन

Question ID : 9895807569
Chosen Option : 3

Q.6 60 लीटर के एक मिश्रण में दूध और पानी का अनुपात 2:3 है, तो मिश्रण में पानी की मात्रा कितनी है?

- Ans
- ✗ 1. 16 लीटर
 - ✓ 2. 36 लीटर
 - ✗ 3. 20 लीटर
 - ✗ 4. 45 लीटर

Question ID : 9895807564
Chosen Option : 2

Q.6 8 सेमी त्रिज्या वाले एक वृत्त का क्षेत्रफल 8 सेमी आधार वाले एक त्रिभुज के क्षेत्रफल के बराबर है। तो त्रिभुज की अनुरूपी ऊंचाई की लंबाई है:

- Ans
- ✓ 1. 16π cm
 - ✗ 2. 8π cm
 - ✗ 3. 18π cm
 - ✗ 4. 38π cm

Question ID : 9895807572
Chosen Option : 1

Q.6 लोहे का एक खोखला पाइप 28 cm लंबा है और इसका बाहरी व्यास 10 cm है। यदि पाइप की मोटाई 2 cm है और लोहे का वजन 5 g/cm^3 है, तो पाइप का वजन कितना है?

- Ans
- ✗ 1. 7.40 g
 - ✗ 2. 7.04 g
 - ✗ 3. 74 g
 - ✓ 4. 70.4 g

Question ID : 9895807573
Chosen Option : 2

Q.6 एक व्यक्ति ने अपने पुराने टाइपराइटर को ₹4500 में बेचने की योजना बनाई है जिस पर उसे 10% हानि होगी। 20% लाभ प्राप्त करने के लिए, उसे इसे कितने रुपये में बेचना चाहिए?

- Ans
- ✓ 1. ₹6000
 - ✗ 2. ₹8500
 - ✗ 3. ₹7200
 - ✗ 4. ₹7000

Question ID : 9895807561
Chosen Option : 1

Q.6

4 रवि और सुमित का वेतन 2:3 के अनुपात में है। यदि प्रत्येक के वेतन में ₹3,000 की वृद्धि हुई है, तो नया अनुपात 35:50 हो जाता है। सुमित का नया वेतन क्या है?

- Ans
- 1. ₹18,000
 - 2. ₹21,000
 - 3. ₹30,000
 - 4. ₹27,000

Question ID : 9895807565
Chosen Option : 2

Q.6
5 सरलीकृत करें:
 $8.65 - [4 + 0.5 \text{ of } (8.8 - 2.3 \times 3.5)]$

- Ans
- 1. 4.275
 - 2. 3.275
 - 3. 4.725
 - 4. 4.527

Question ID : 9895807555
Chosen Option : 1

Q.6
6 यदि कोई व्यक्ति 10 km/h के बजाय 15 km/h की गति से चलता तो वह 25 km अधिक चला होता। उसके द्वारा की गई यात्रा की वास्तविक दूरी थी:

- Ans
- 1. 80 km
 - 2. 70 km
 - 3. 56 km
 - 4. 50 km

Question ID : 9895807570
Chosen Option : 2

Q.6
7 $\frac{4^2 + 4}{5} + 5 \times 2 - 3$ of 4 का मान क्या है?

- Ans
- 1. 9
 - 2. 2
 - 3. 3
 - 4. 6

Question ID : 9895807554
Chosen Option : 2

Q.6
8

निम्नलिखित पाई-चार्ट एक पुस्तक को प्रकाशित करने में हुए व्यय का प्रतिशत वितरण दर्शाता है। पाई-चार्ट का अध्ययन करें और उसके आधार पर प्रश्न के उत्तर दें।

एक पुस्तक के प्रकाशन में हुआ विभिन्न व्यय (प्रतिशत में)



प्रश्न:

यदि पुस्तकों की एक निश्चित मात्रा के लिए, प्रकाशक को मुद्रण लागत के रूप में ₹30,600 का भुगतान करना पड़ता है, तो इन पुस्तकों के लिए भुगतान की जाने वाली कागज की लागत कितनी होगी?

- Ans
- 1. ₹28,250
 - 2. ₹38,000
 - 3. ₹38,250
 - 4. ₹30,250

Question ID : 9895807575

Chosen Option : 2

Q.6 वह सबसे बड़ी संख्या ज्ञात करें जिसके द्वारा 47, 95 और 187 को विभाजित करने पर प्रत्येक मामले में समान शेष रहे।

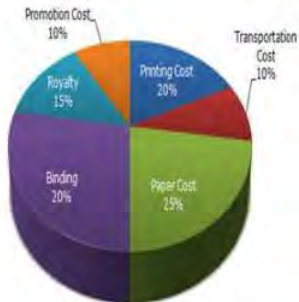
- Ans
- 1. 13
 - 2. 4
 - 3. 9
 - 4. 7

Question ID : 9895807553

Chosen Option : 2

Q.7 निम्नलिखित पाई-चार्ट एक पुस्तक को प्रकाशित करने में हुए व्यय का प्रतिशत वितरण दर्शाता है। पाई-चार्ट का अध्ययन करें और उसके आधार पर प्रश्न के उत्तर दें।

एक पुस्तक के प्रकाशन में हुआ विभिन्न व्यय (प्रतिशत में)



पुस्तक पर रॉयल्टी कागज की लागत से कितने प्रतिशत कम है?

- Ans
- 1. 30%
 - 2. 50%
 - 3. 40%
 - 4. 25%

Q.7 एक परिवार में दो दादा-दादी, तीन माता-पिता और चार पोते-पोतियां हैं। दादा/दादी की औसत आयु 65 वर्ष है, माता-पिता की औसत आयु 32 वर्ष है और पोते-पोतियां की औसत आयु 8 वर्ष है। परिवार की औसत आयु क्या है?

Ans

✓ 1. $28\frac{2}{3}$ वर्ष

✗ 2. $28\frac{1}{3}$ वर्ष

✗ 3. इनमें से कोई नहीं

✗ 4. 28 वर्ष

Q.7 निम्नलिखित पाई-चार्ट एक पुस्तक को प्रकाशित करने में हुए व्यय का प्रतिशत वितरण दर्शाता है। पाई-चार्ट का अध्ययन करें और उसके आधार पर प्रश्न के उत्तर दें।

एक पुस्तक के प्रकाशन में हुआ विभिन्न व्यय (प्रतिशत में)



जिल्दसाजी / बाईंडिंग पर किए गए व्यय के अनुरूपी क्षेत्र का केंद्रीय कोण क्या है?

Ans

✗ 1. 90°

✗ 2. 48°

✓ 3. 72°

✗ 4. 70°

Q.7 दो संख्याएँ तीसरी संख्या से क्रमशः 25% और 50% अधिक हैं। दूसरी संख्या से पहली संख्या का अनुपात है:

Ans

✗ 1. 6:5

✗ 2. 1:2

✗ 3. 2:1

✓ 4. 5:6

Q.7 राज ने 35% की छूट पर एक नई कुर्सी खरीदी। यदि राज को कोई छूट नहीं मिलती, तो राज को ₹238 और देने पड़ते। राज ने कुर्सी के लिए कितना भुगतान किया?

Ans

✗ 1. ₹416

2. ₹442
 3. ₹424
 4. ₹452

Question ID : 9895807558
Chosen Option : 2

Q.7 11 सदस्यों वाली क्रिकेट टीम के कप्तान की आयु 28 वर्ष है और विकेट कीपर उससे 4 वर्ष बड़ा है। यदि इन दोनों की आयु को छोड़ दिया जाए, तो बाकी खिलाड़ियों की औसत आयु पूरी टीम की औसत आयु से दो वर्ष कम है। तो टीम की औसत आयु क्या है?

- Ans 1. 15 वर्ष
 2. 29 वर्ष
 3. 21 वर्ष
 4. 22 वर्ष

Question ID : 9895807557
Chosen Option : 2

Section : English Language

Q.1 Select the most appropriate option to substitute the underlined segment in the given sentence. If there is no need to substitute it, select No improvement.

No sooner he has returned to home than his boss called him for an urgent meeting.

- Ans 1. No sooner he have returned to home
 2. No improvement
 3. No sooner had he returned home
 4. No sooner he returned to home

Question ID : 9895807883
Chosen Option : --

Q.2 From the given options, identify the segment in the sentence which contains the grammatical error.

The book provide ample guidance and practice in learning English conversations effectively for all age groups.

- Ans 1. for all age groups
 2. in learning English conversations
 3. ample guidance and practice
 4. The book provide

Question ID : 9895807880
Chosen Option : --

Q.3 Select the synonym of the given word.

STRAY

- Ans
- 1. Steady
 - 2. Wander
 - 3. Gruesome
 - 4. Slight

Question ID : 9895807894
Chosen Option : --

Q.4 Select the most appropriate word to fill in the blank.

This is a good time for all of us to _____ a new year's party.

- Ans
- 1. initiate
 - 2. collect
 - 3. organize
 - 4. invite

Question ID : 9895807903
Chosen Option : --

Q.5 Select the option that means the same as the given idiom.

To pull oneself together

- Ans
- 1. To put necessary matters on the table
 - 2. To calm oneself and begin to think or act
 - 3. To keep working constantly with attention
 - 4. To hide important facts and reasons

Question ID : 9895807898
Chosen Option : --

Comprehension:

In the following passage some words have been deleted. Fill in the blanks with the help of the alternatives given.

Obesity can be (1) _____ by eating healthy food and increasing physical activity. There is no need to alter the quantity of the food but the quality of the food must be (2) _____ and improvised. Avoiding red meat, oily food, extra fats in form of ghee, butter etc. can dramatically help to reduce the weight. Moreover, if the right eating is accompanied (3) _____ physical work out, it becomes the perfect way to lose weight and stay healthy. In some patients (4) _____ is also carried out. The choice of the treatment (5) _____ on various factors and the decision is taken by the physician by thoroughly examining the patient.

SubQuestion No : 6

Q.6 Select the most appropriate option that will fill in the blank number 1.

- Ans
- 1. managed
 - 2. destroyed
 - 3. tolerated
 - 4. magnified

Question ID : 9895807888
Chosen Option : --

Comprehension:

In the following passage some words have been deleted. Fill in the blanks with the help of the alternatives given.

Obesity can be (1) _____ by eating healthy food and increasing physical activity. There is no need to alter the quantity of the food but the quality of the food must be (2) _____ and improvised. Avoiding red meat, oily food, extra fats in form of ghee, butter etc. can dramatically help to reduce the weight. Moreover, if the right eating is accompanied (3) _____ physical work out, it becomes the perfect way to lose weight and stay healthy. In some patients (4) _____ is also carried out. The choice of the treatment (5) _____ on various factors and the decision is taken by the physician by thoroughly examining the patient.

SubQuestion No : 7

Q.7 Select the most appropriate option that will fill in the blank number 2.

- Ans
- 1. checked
 - 2. satisfied
 - 3. decreased
 - 4. distinguished

Question ID : 9895807889

Chosen Option : --

Comprehension:

In the following passage some words have been deleted. Fill in the blanks with the help of the alternatives given.

Obesity can be (1) _____ by eating healthy food and increasing physical activity. There is no need to alter the quantity of the food but the quality of the food must be (2) _____ and improvised. Avoiding red meat, oily food, extra fats in form of ghee, butter etc. can dramatically help to reduce the weight. Moreover, if the right eating is accompanied (3) _____ physical work out, it becomes the perfect way to lose weight and stay healthy. In some patients (4) _____ is also carried out. The choice of the treatment (5) _____ on various factors and the decision is taken by the physician by thoroughly examining the patient.

SubQuestion No : 8

Q.8 Select the most appropriate option that will fill in the blank number 3.

- Ans
- 1. with
 - 2. for
 - 3. at
 - 4. of

Question ID : 9895807890
Chosen Option : --

Comprehension:

In the following passage some words have been deleted. Fill in the blanks with the help of the alternatives given.

Obesity can be (1) _____ by eating healthy food and increasing physical activity. There is no need to alter the quantity of the food but the quality of the food must be (2) _____ and improvised. Avoiding red meat, oily food, extra fats in form of ghee, butter etc. can dramatically help to reduce the weight. Moreover, if the right eating is accompanied (3) _____ physical work out, it becomes the perfect way to lose weight and stay healthy. In some patients (4) _____ is also carried out. The choice of the treatment (5) _____ on various factors and the decision is taken by the physician by thoroughly examining the patient.

SubQuestion No : 9

Q.9 Select the most appropriate option that will fill in the blank number 4.

- Ans
- 1. dissection
 - 2. amputation
 - 3. segmentation
 - 4. surgery

Question ID : 9895807891
Chosen Option : --

Comprehension:

In the following passage some words have been deleted. Fill in the blanks with the help of the alternatives given.

Obesity can be (1) _____ by eating healthy food and increasing physical activity. There is no need to alter the quantity of the food but the quality of the food must be (2) _____ and improvised. Avoiding red meat, oily food, extra fats in form of ghee, butter etc. can dramatically help to reduce the weight. Moreover, if the right eating is accompanied (3) _____ physical work out, it becomes the perfect way to lose weight and stay healthy. In some patients (4) _____ is also carried out. The choice of the treatment (5) _____ on various factors and the decision is taken by the physician by thoroughly examining the patient.

SubQuestion No : 10

Q.1
0 Select the most appropriate option that will fill in the blank number 5.

- Ans
- 1. avoids
 - 2. ignores
 - 3. loathes
 - 4. depends

Question ID : 9895807892

Chosen Option : --

Q.1
1 Select the synonym of the given word.

ADULTERATED

- Ans
- 1. Combined
 - 2. Concentrated
 - 3. Fused
 - 4. Contaminated

Question ID : 9895807893

Chosen Option : --

Q.1
2 Select the correctly spelt word.

- Ans
- 1. Rehearsal
 - 2. Reehersal
 - 3. Rehersal
 - 4. Rehearsel

Question ID : 9895807901
Chosen Option : --

Q.1
3 Select the most appropriate word to fill in the blank.

A person's individual risk for many diseases most often _____ from a combination of genes, environment and lifestyle.

- Ans
- 1. stops
 - 2. diagnoses
 - 3. stems
 - 4. checks

Question ID : 9895807904
Chosen Option : --

Q.1
4 Select the antonym of the given word.

BENIGN

- Ans
- 1. Amiable
 - 2. Hostile
 - 3. Mild
 - 4. Genial

Question ID : 9895807895
Chosen Option : --

Q.1
5 Select the most appropriate option to fill in the blank.

People can only form new habits when they _____ particular patterns of behaviour.

- Ans
- 1. has adopted
 - 2. had adopted
 - 3. have adopted
 - 4. having adopted

Question ID : 9895807885
Chosen Option : --

Q.1
6 Select the correctly spelt word.

- Ans
- 1. Quantitative

2. Quantitative

3. Quantitative

4. Quantitative

Question ID : 9895807902

Chosen Option : --

Q.1
7 Select the word which means the same as the group of words given.

A large number of fish swimming together.

Ans 1. Mob

2. Pack

3. Shoal

4. Herd

Question ID : 9895807899

Chosen Option : --

Q.1
8 From the given options, identify the segment in the sentence which contains the grammatical error.

Just because you are learning a language does not mean you need to limiting your thinking.

Ans 1. need to limiting your thinking

2. you are learning a language

3. Just because

4. does not mean

Question ID : 9895807879

Chosen Option : --

Q.1
9 Select the word which means the same as the group of words given.

Someone in love with himself.

Ans 1. Humanist

2. Narcissist

3. Philologist

4. Philanthropist

Question ID : 9895807900

Chosen Option : --

Q.2
0 Select the most appropriate option to substitute the underlined segment in the given sentence. If there is no need to substitute it, select No improvement.

My neighbour along with his children is going tonight to watch a movie based over the life of martyrs.

Ans 1. No improvement

- 2. a movie based on the life of martyrs
- 3. a movie basing on life of martyrs
- 4. a movie base on the life of martyrs

Question ID : 9895807882
Chosen Option : --

Q.2
1 Select the option that means the same as the given idiom.

To be fair and square

- Ans
- 1. To be good at drawing
 - 2. To be in a good physique
 - 3. To be honest
 - 4. To be fair in colour

Question ID : 9895807897
Chosen Option : --

Q.2
2 Select the most appropriate option to fill in the blank.

Sometimes a person's intelligence is not fully appreciated _____ he/she gets an opportunity.

- Ans
- 1. unless
 - 2. later
 - 3. until
 - 4. upto

Question ID : 9895807886
Chosen Option : --

Q.2
3 Select the antonym of the given word.

EXTRAVAGANT

- Ans
- 1. Factual
 - 2. Wonderful
 - 3. Economical
 - 4. Untrue

Question ID : 9895807896
Chosen Option : --

Q.2
4 Select the most appropriate option to substitute the underlined segment in the given sentence. If there is no need to substitute it, select No improvement.

Passengers are requested to go for security check before they proceed to board the flight.

- Ans
- 1. are requests to go for

2. are requesting to go for
 3. are request to go for
 4. No improvement

Question ID : 9895807884
Chosen Option : --

Q.2 From the given options, identify the segment in the sentence which contains the grammatical error.
5

Taking the help of people with rich experience of life will saves you much time and effort.

- Ans 1. will saves you
 2. people with rich experience
 3. Taking the help of
 4. much time and effort

Question ID : 9895807881
Chosen Option : --

Section : Hindi Language

Q.1 दिए गए वाक्य का वह भाग ज्ञात करें जिसमें कोई त्रुटि है।
मंदिर जाने से पूर्व भक्त मानव एक फूलों की माला बाजार से लाया।

- Ans 1. भक्त मानव
 2. बाजार से लाया।
 3. मंदिर जाने से पूर्व
 4. एक फूलों की माला

Question ID : 9895806659
Chosen Option : 1

Q.2 दिए गए वाक्य में रेखांकित खंड को प्रतिस्थापित करने के लिए उपयुक्त विकल्प का चयन करें।
भगवान कृष्ण भूत, वर्तमान और भविष्य को देखने वाले थे।

- Ans 1. पारदर्शी
 2. त्रिकालदर्शी
 3. सूक्ष्मदर्शी
 4. दूरदर्शी

Question ID : 9895806660
Chosen Option : 2

Q.3

दिए गए वाक्य में रेखांकित खंड को प्रतिस्थापित करने के लिए उपयुक्त विकल्प का चयन करें।

कुणाल अपने धन का भरपूर दुरुपयोग करता है।

- Ans
- 1. अपव्यय
 - 2. मितव्यय
 - 3. व्यय
 - 4. संचय

Question ID : 9895806662
Chosen Option : 2

Q.4 दिए गए वाक्य में रेखांकित खंड को प्रतिस्थापित करने के लिए उपयुक्त विकल्प का चयन करें।

सड़क पर पड़ी लावारिस ,जिस पर संदेह हो, वस्तु को छूना नहीं चाहिए।

- Ans
- 1. अशक्त
 - 2. मुमुक्षु
 - 3. संदिग्ध
 - 4. शिल्प

Question ID : 9895806661
Chosen Option : 3

Q.5 निम्नलिखित में से उस विकल्प का चयन करें जो 'बाएँ हाथ का खेल होना' मुहावरे का अर्थ व्यक्त करता है।

- Ans
- 1. मुश्किल कार्य
 - 2. असंभव
 - 3. बाएँ हाथ से खेलना
 - 4. आसान कार्य

Question ID : 9895806677
Chosen Option : 4

Q.6 दिए गए वाक्य का वह भाग ज्ञात करें जिसमें कोई त्रुटि है।

जो व्यक्ति अधिक परिश्रम नहीं करता वे परीक्षा में सफलता प्राप्त नहीं करता।

- Ans
- 1. सफलता प्राप्त नहीं करता।
 - 2. वे परीक्षा में
 - 3. जो व्यक्ति
 - 4. अधिक परिश्रम नहीं करता

Question ID : 9895806657
Chosen Option : 2

निम्नलिखित गद्यांश के रिक्त स्थानों की पूर्ति गद्यांश के नीचे दिए गए प्रश्नों के अनुसार कीजिए -

महादेवी ने इसी समाज में मजबूती से पाँव रोपकर अपने _____(1) की खोज की थी। व्यक्तित्व की खोज ही नहीं, उसकी _____(2) की खोज भी। कदाचित इसी कारण उनकी भावुकता में भी एक _____(3) है, तरलता में भी एक आंतरिक प्रतिरोध है, जो उनकी कविता से अधिक उनके गद्य में उजागर होता है। कविता में तो उसे प्रेरित करने वाले विशिष्ट भाव-प्रसंग का, उसके लौकिक _____(4) का अक्सर पता नहीं चलता। गद्य में वही कवित्व ठोस वस्तु स्थितियों से, स्वयं पढ़ने वाले की जीवनानुभूति से पग-पग आलोकित परिभाषित होता चलता है। महादेवी का गद्य अंतर्जगत और बहिर्जगत का एक अत्यंत रोचक और _____(5) संवाद घटित कराने वाला गद्य है।

SubQuestion No : 7

Q.7 गद्यांश में संकेतित रिक्त स्थान (1) के लिए उपयुक्त शब्द होगा

- Ans
- 1. व्यक्तित्व
 - 2. महत्व
 - 3. अपनत्व
 - 4. संक्षिप्त

Question ID : 9895806668
Chosen Option : 2

Comprehension:

निम्नलिखित गद्यांश के रिक्त स्थानों की पूर्ति गद्यांश के नीचे दिए गए प्रश्नों के अनुसार कीजिए -

महादेवी ने इसी समाज में मजबूती से पाँव रोपकर अपने _____(1) की खोज की थी। व्यक्तित्व की खोज ही नहीं, उसकी _____(2) की खोज भी। कदाचित इसी कारण उनकी भावुकता में भी एक _____(3) है, तरलता में भी एक आंतरिक प्रतिरोध है, जो उनकी कविता से अधिक उनके गद्य में उजागर होता है। कविता में तो उसे प्रेरित करने वाले विशिष्ट भाव-प्रसंग का, उसके लौकिक _____(4) का अक्सर पता नहीं चलता। गद्य में वही कवित्व ठोस वस्तु स्थितियों से, स्वयं पढ़ने वाले की जीवनानुभूति से पग-पग आलोकित परिभाषित होता चलता है। महादेवी का गद्य अंतर्जगत और बहिर्जगत का एक अत्यंत रोचक और _____(5) संवाद घटित कराने वाला गद्य है।

SubQuestion No : 8

Q.8 गद्यांश में संकेतित रिक्त स्थान (2) के लिए उपयुक्त शब्द होगा

- Ans
- 1. सार्थकता
 - 2. परोक्षता
 - 3. प्रसन्नता
 - 4. विफलता

Question ID : 9895806669
Chosen Option : 1

Comprehension:

निम्नलिखित गद्यांश के रिक्त स्थानों की पूर्ति गद्यांश के नीचे दिए गए प्रश्नों के अनुसार कीजिए -

महादेवी ने इसी समाज में मजबूती से पाँव रोपकर अपने _____(1) की खोज की थी। व्यक्तित्व की खोज ही नहीं, उसकी _____(2) की खोज भी। कदाचित इसी कारण उनकी भावुकता में भी एक _____(3) है, तरलता में भी एक आंतरिक प्रतिरोध है, जो उनकी कविता से अधिक उनके गद्य में उजागर होता है। कविता में तो उसे प्रेरित करने वाले विशिष्ट भाव-प्रसंग का, उसके लौकिक _____(4) का अक्सर पता नहीं चलता। गद्य में वही कवित्व ठोस वस्तु स्थितियों से, स्वयं पढ़ने वाले की जीवनानुभूति से पग-पग आलोकित परिभाषित होता चलता है। महादेवी का गद्य अंतर्जगत और बहिर्जगत का एक अत्यंत रोचक और _____(5) संवाद घटित कराने वाला गद्य है।

SubQuestion No : 9

Q.9 गद्यांश में संकेतित रिक्त स्थान (3) के लिए उपयुक्त शब्द होगा

- Ans
- 1. कठोरता
 - 2. निष्ठुरता
 - 3. दृढ़ता
 - 4. तरलता

Question ID : 9895806670
Chosen Option : 3

Comprehension:

निम्नलिखित गद्यांश के रिक्त स्थानों की पूर्ति गद्यांश के नीचे दिए गए प्रश्नों के अनुसार कीजिए -

महादेवी ने इसी समाज में मजबूती से पाँव रोपकर अपने _____(1) की खोज की थी। व्यक्तित्व की खोज ही नहीं, उसकी _____(2) की खोज भी। कदाचित इसी कारण उनकी भावुकता में भी एक _____(3) है, तरलता में भी एक आंतरिक प्रतिरोध है, जो उनकी कविता से अधिक उनके गद्य में उजागर होता है। कविता में तो उसे प्रेरित करने वाले विशिष्ट भाव-प्रसंग का, उसके लौकिक _____(4) का अक्सर पता नहीं चलता। गद्य में वही कवित्व ठोस वस्तु स्थितियों से, स्वयं पढ़ने वाले की जीवनानुभूति से पग-पग आलोकित परिभाषित होता चलता है। महादेवी का गद्य अंतर्जगत और बहिर्जगत का एक अत्यंत रोचक और _____(5) संवाद घटित कराने वाला गद्य है।

SubQuestion No : 10

Q.1
0 गद्यांश में संकेतित रिक्त स्थान (4) के लिए उपयुक्त शब्द होगा

- Ans
- 1. विकार
 - 2. आधार
 - 3. औजार
 - 4. आभार

Question ID : 9895806671

Chosen Option : 1

Comprehension:

निम्नलिखित गद्यांश के रिक्त स्थानों की पूर्ति गद्यांश के नीचे दिए गए प्रश्नों के अनुसार कीजिए -

महादेवी ने इसी समाज में मजबूती से पाँव रोपकर अपने _____(1) की खोज की थी। व्यक्तित्व की खोज ही नहीं, उसकी _____(2) की खोज भी। कदाचित इसी कारण उनकी भावुकता में भी एक _____(3) है, तरलता में भी एक आंतरिक प्रतिरोध है, जो उनकी कविता से अधिक उनके गद्य में उजागर होता है। कविता में तो उसे प्रेरित करने वाले विशिष्ट भाव-प्रसंग का, उसके लौकिक _____(4) का अक्सर पता नहीं चलता। गद्य में वही कवित्व ठोस वस्तु स्थितियों से, स्वयं पढ़ने वाले की जीवनानुभूति से पग-पग आलोकित परिभाषित होता चलता है। महादेवी का गद्य अंतर्जगत और बहिर्जगत का एक अत्यंत रोचक और _____(5) संवाद घटित कराने वाला गद्य है।

SubQuestion No : 11

Q.1
1 गद्यांश में संकेतित रिक्त स्थान (5) के लिए उपयुक्त शब्द होगा

- Ans
- 1. अलौकिक
 - 2. भौतिक
 - 3. मार्मिक
 - 4. अमार्मिक

Question ID : 9895806672
Chosen Option : 2

Q.1
2 सही वर्तनी वाले शब्द का चयन करें।

- Ans
- 1. ननिहाल
 - 2. नानीहाल
 - 3. ननिआल
 - 4. ननीहाल

Question ID : 9895806682
Chosen Option : 1

Q.1
3 दिए गए वाक्य का वह भाग ज्ञात करें जिसमें कोई त्रुटि है।

मोहन का आम का बगीचा बड़ी ही सुन्दर है।

Ans

1. आम का बगीचा
 2. मोहन का
 3. बड़ी ही
 4. सुन्दर है।

Question ID : 9895806658
Chosen Option : 3

Q.1
4 दिये गये वाक्यांश के लिए एक शब्द दीजिये।

काम से जी चुराने वाला

- Ans 1. कर्मठ
 2. मेहनती
 3. कामचोर
 4. निर्लज्ज

Question ID : 9895806680
Chosen Option : 3

Q.1
5 सही वर्तनी वाले शब्द का चयन करें।

- Ans 1. अतिथीगृह
 2. अतिथिगृह
 3. अतिथिग्रह
 4. अतीथिगृह

Question ID : 9895806681
Chosen Option : 2

Q.1
6 दिए गए शब्द का विलोम चुनें।

शोक

- Ans 1. हर्ष
 2. दुर्भाग्य
 3. सौभाग्य
 4. दुख

Question ID : 9895806674
Chosen Option : 1

Q.1

7 दिए गए शब्द के पर्यायवाची शब्द का चयन करें।

क्षति

- Ans
- 1. क्षमता
 - 2. हार
 - 3. हानि
 - 4. श्रुति

Question ID : 9895806675
Chosen Option : 3

Q.1 8 दिये गये वाक्यांश के लिए एक शब्द दीजिये।

जिसके समान कोई दूसरा न हो

- Ans
- 1. दंडनीय
 - 2. गोपनीय
 - 3. अद्वितीय
 - 4. तुलनीय

Question ID : 9895806679
Chosen Option : 3

Q.1 9 रिक्त स्थान को भरने के लिए उपयुक्त शब्द का चयन करें।

तुमने मेहनत नहीं की इसलिए _____ हुए।

- Ans
- 1. मेहमान
 - 2. पागल
 - 3. सफल
 - 4. असफल

Question ID : 9895806663
Chosen Option : 4

Q.2 0 दिए गए शब्द के पर्यायवाची शब्द का चयन करें।

आभूषण

- Ans
- 1. सलिल
 - 2. अंलकार
 - 3. वसुंधरा
 - 4. समास

Question ID : 9895806676
Chosen Option : 2

Q.2
1 रिक्त स्थान को भरने के लिए उपयुक्त शब्द का चयन करें।

कृपया कूड़ेदान _____ प्रयोग करें।

- Ans
- 1. से
 - 2. पर
 - 3. में
 - 4. का

Question ID : 9895806665
Chosen Option : 4

Q.2
2 दिए गए शब्द का विलोम चुनें।

बहुज

- Ans
- 1. विज
 - 2. जानी
 - 3. अल्पज
 - 4. अगम्य

Question ID : 9895806673
Chosen Option : 3

Q.2
3 निम्नलिखित में से उस विकल्प का चयन करें जो 'बाल-बाल बचना' मुहाबरे का अर्थ व्यक्त करता है।

- Ans
- 1. बालों को बचाना
 - 2. संकट से कठिनाई से बचना
 - 3. कठिनाई होना
 - 4. आसानी से बचना

Question ID : 9895806678
Chosen Option : 2

Q.2
4 रिक्त स्थान को भरने के लिए उपयुक्त शब्द का चयन करें।

वसंत ऋतुओं का _____ है।

- Ans
- 1. भाई
 - 2. नाना
 - 3. राजा

4. मामा

Question ID : 9895806664
Chosen Option : 1

Q.2
5 रिक्त स्थान को भरने के लिए उपयुक्त शब्द का चयन करें।

मेरे जीवन का लक्ष्य बहुत _____ है।

- Ans
- 1. मलिन
 - 2. खराब
 - 3. चौड़ा
 - 4. ऊँचा

Question ID : 9895806666
Chosen Option : 4

KD Job Updates

Constable (GD) in CAPFs, NIA, SSF and Rifleman (GD) in Assam Rifles Examination, 2018

Roll No. :	
Registration No.	
Name :	
Exam Venue :	
Exam Time :	4:00 PM - 5:30 PM
Exam Date :	01/03/2019

Section : General Section

Q.1 निम्नलिखित संख्या श्रृंखला में, दो संख्याओं को कोष्ठक के भीतर रखा गया है। श्रृंखला का ध्यानपूर्वक अध्ययन करें और श्रृंखला के संबंध में सही विकल्प का चयन करें।

11, 101, 1001, (10001), 100001, (10000001)

- Ans**
1. दोनों कोष्ठक संख्याएँ गलत हैं।
2. पहली कोष्ठक संख्या (बाएं से) गलत है और दूसरी सही है।
3. पहली कोष्ठक संख्या (बाएं से) सही है और दूसरी गलत है।
4. दोनों कोष्ठक संख्याएँ सही हैं।

Question ID : 9895808207
Chosen Option : 4

Q.2 उस विकल्प का चयन करें जो दर्पण के लम्बवत रखे जाने पर दिए गए शब्द की दर्पण छवि से सर्वाधिक मेल खाता है।

HOW

- Ans**
1. HOW
2. WOH
3. MOH
4. HOM

Question ID : 9895808211
Chosen Option : 2

Q.3 निम्नलिखित में से असंगत की पहचान करें।

- Ans**
1. vxz
2. prt
3. kmn
4. bdf

Question ID : 9895808191
Chosen Option : 1

Q.4 निम्नलिखित में से उस संख्या का चयन करें जो बाकी संख्याओं से अलग है।

- Ans**
1. 9
2. 64

3. 125
 4. 1000

Question ID : 9895808205
 Chosen Option : 4

Q.5 उस संख्या का चयन करें जो निम्नलिखित श्रृंखला में अगली संख्या होगी।

0, 2, 6, 12, 20, 30, 42, 56, 72, _____

- Ans 1. 81
 2. 90
 3. 82
 4. 100

Question ID : 9895808202
 Chosen Option : 2

Q.6 शब्दों के चार युग्म दिए गए हैं जिनमें से तीन युग्म किसी न किसी प्रकार से समान हैं, जबकि एक युग्म भिन्न है। असंगत युग्म का चयन करें।

- Ans 1. कागज : लुगदी
 2. फावड़ा : खोदना
 3. बन्दूक : गोली चलाना
 4. कलम : लिखना

Question ID : 9895808192
 Chosen Option : 3

Q.7 एक वर्गाकार कागज (डैशदार लाइनें) को ठोस आकृति में तीरों द्वारा दर्शाए गए रूप में मोड़ा जाता है। फिर उसमें एक छेद किया जाता है जैसा कि वृत्त के रूप में दिखाया गया है। उस विकल्प का चयन करें जो यह दर्शाता है कि खोले जाने पर कागज कैसा दिखाई देगा।



- Ans 1.
- 2.
- 3.
- 4.

Question ID : 9895808212

Chosen Option : 4

Q.8 यदि THEORY को YROTHE के रूप में कूटबद्ध किया जाता है, तो SCHOOL को किस रूप में कूटबद्ध किया जायेगा?

- Ans
- 1. LOOCSH
 - 2. LOOSCH
 - 3. OOLSCH
 - 4. LOOHCS

Question ID : 9895808196
Chosen Option : 2

Q.9 निम्नलिखित श्रृंखला में अगले पद का चयन करें।

B-2, D-4, F-6, H-8, J-10, L-12, _____

- Ans
- 1. O-14
 - 2. M-14
 - 3. K-14
 - 4. N-14

Question ID : 9895808189
Chosen Option : 4

Q.1 नीचे दिए गए कथनों के बाद दो निष्कर्ष I और II दिए गए हैं। यह मानते हुए कि कथनों में दी गई जानकारी सत्य है, भले ही वह सर्वज्ञात तथ्यों से भिन्न प्रतीत होती हो और यह निर्णय करें कि कौन सा/से निष्कर्ष तार्किक और निश्चित रूप से कथन में दी गई जानकारी का अनुसरण करता है/करते हैं।

कथन:

सभी डॉक्टर लड़के हैं।
सभी लड़के लम्बे हैं।

निष्कर्ष:

- I. सभी डॉक्टर लम्बे हैं।
- II. सभी लड़के डॉक्टर हैं।

- Ans
- 1. केवल निष्कर्ष I अनुसरण करता है।
 - 2. दोनों निष्कर्ष I और II अनुसरण करते हैं।
 - 3. केवल निष्कर्ष II अनुसरण करता है।
 - 4. न तो निष्कर्ष I और न ही निष्कर्ष II अनुसरण करता है।

Question ID : 9895808200
Chosen Option : 1

Q.1 उस विकल्प का चयन करें जो तीसरी संख्या से उसी तरह से संबंधित है जिस प्रकार दूसरी संख्या पहली संख्या से संबंधित है।

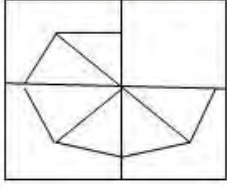
10 : 110 :: 15 : _____

- Ans
- 1. 215
 - 2. 225
 - 3. 255
 - 4. 235

Question ID : 9895808204

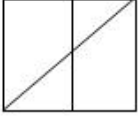
Chosen Option : 1

Q.1
2 निम्नलिखित पैटर्न को पूरा करने के लिए सही विकल्प का चयन करें।



Ans

✗ 1.



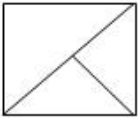
✓ 2.



✗ 3.



✗ 4.



Question ID : 9895808210
Chosen Option : 2

Q.1
3 चार शब्द दिए गए हैं, जिनमें से तीन किसी तरह से समान हैं, जबकि एक अलग है। असंगत शब्द चुनें।

Ans

✗ 1. कूदना

✗ 2. दौड़ना

✓ 3. सोना

✗ 4. चलना

Question ID : 9895808190
Chosen Option : 3

Q.1
4 वेन आरेख का चयन करें जो दिए गए तीन वर्गों के बीच के संबंध को सबसे सही रूप में दिखाता है।

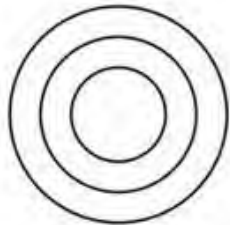
हार, कंगन, आभूषण

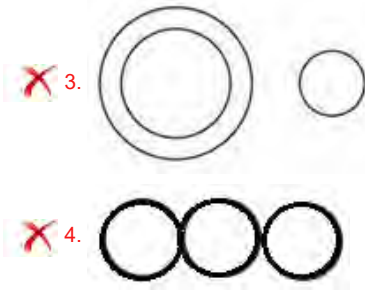
Ans

✓ 1.



✗ 2.





Question ID : 9895808213
Chosen Option : 1

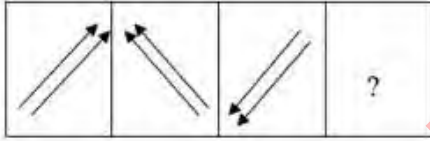
Q.1 5 उस शब्द-युग्म का चयन करें जो दिए गए शब्द - युग्म के अनुरूप है।

मानवविज्ञान : मानव

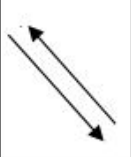
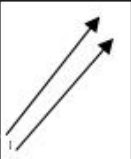


- Ans
1. कवक विज्ञान : शैवाल
2. भूकंप विज्ञान : भूकंप
3. प्राणि विज्ञान : पौधे
4. भूमि-विज्ञान : रोग

Question ID : 9895808193
Chosen Option : 1

Q.1 6 निम्नलिखित श्रृंखला में आने वाली अगली आकृति का चयन करें।



Ans

1. 
2. 
3. 
4. 

Question ID : 9895808208
Chosen Option : 4

Q.1 चार छात्राएँ- सुमी, कवि, रानी और प्रीति एक पंक्ति में बैठी हैं। रानी और प्रीति एक दूसरे के बगल में नहीं बैठी हैं।
7 कवि तीसरे स्थान पर नहीं बैठी है।

निम्नलिखित में कौन सा गलत है?

Ans

1. सुमी तीसरे स्थान पर है।
2. सुमी दूसरे स्थान पर है।
3. सुमी चौथे स्थान पर है।
4. सुमी पहले स्थान पर है।

Question ID : 9895808198
Chosen Option : 2

Q.1 'अनाज' उसी तरह से संबंधित है 'अन्नभण्डार' से जिस प्रकार 'मछली' संबंधित है _____ से।
8

Ans

1. चिड़ियाघर
2. समुद्र
3. मछलीघर
4. मधुवाटिका

Question ID : 9895808194
Chosen Option : 3

Q.1 दिए गए समीकरण को सही बनाने के लिए किन दो चिह्नों को परस्पर बदलना होगा?
9

$$15 - 15 + 15 \times 15 \div 5 = 5$$

Ans

1. \div और $-$
2. $+$ और \times
3. $+$ और $-$
4. \div और \times

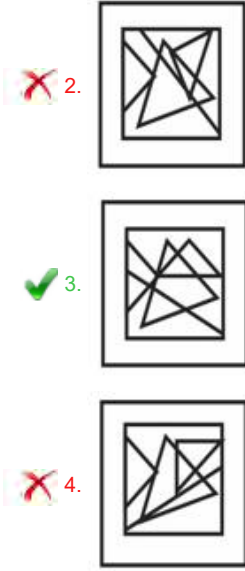
Question ID : 9895808206
Chosen Option : 4

Q.2 उस विकल्प का चयन करें जिसमें दी गई आकृति अंतर्निहित है।
0



Ans

- 1.



Question ID : 9895808209
Chosen Option : 1

Q.2 1 दिए गए कथनों और निष्कर्षों को ध्यानपूर्वक पढ़ें और निर्णय लें कि कौन सा/से निष्कर्ष तार्किक रूप से कथनों का अनुसरण करता है/करते हैं।

कथन:

स्वाति सॉफ्टवेयर कंपनी X के प्रोजेक्ट मैनेजर के पद के लिए चुने जाने वाले संभावित उम्मीदवारों में से एक है।

निष्कर्ष:

- I. स्वाति को सॉफ्टवेयर कंपनी X के प्रोजेक्ट मैनेजर के रूप में चयनित किया जाएगा।
- II. स्वाति सॉफ्टवेयर कंपनी X की प्रोजेक्ट मैनेजर के रूप में चयनित नहीं किया जाएगा।

- Ans 1. दोनों निष्कर्ष I और II अनुसरण करते हैं।
2. केवल निष्कर्ष I अनुसरण करता है।
3. या तो निष्कर्ष I या II अनुसरण करता है।
4. केवल निष्कर्ष II अनुसरण करता है।

Question ID : 9895808201
Chosen Option : 3

Q.2 2 उस संख्या का चयन करें जो निम्नलिखित समूह से संबंधित नहीं है।

1, 3, 5, 7, 9, 11, 13, 15, 17, 20, 21

- Ans 1. 15
2. 20
3. 3
4. 13

Question ID : 9895808203
Chosen Option : 2

Q.2 3 40 छात्रों की एक पंक्ति में, मोनीश बाएँ छोर से 13वें स्थान पर है और कुमार दाएँ छोर से 9वें स्थान पर है। यदि हरि कुमार के बाएँ से चौथे स्थान पर है तो मोनीश और हरि के बीच कितने छात्र हैं?

- Ans 1. 14
2. 19

3. 10

4. 13

Question ID : 9895808197

Chosen Option : 2

Q.2
4 यदि BAT = 9 और GROUND = 36, तो BUILDING = _____

Ans 1. 81

2. 66

3. 64

4. 70

Question ID : 9895808195

Chosen Option : 3

Q.2
5 एक सप्ताह में सोमवार से शुक्रवार तक पांच भाषाओं -गुजराती, हिंदी, तेलुगु, उर्दू और तमिल में नाटकों का मंचन किया जाता है। प्रत्येक दिन, केवल एक नाटक का मंचन किया जाता है। उर्दू या तमिल नाटकों का मंचन पहले या अंतिम दिन नहीं होना चाहिए। तमिल नाटक को तेलुगु के तुरंत बाद किया जाना चाहिए। उर्दू के ठीक बाद हिंदी नाटक का मंचन किया जाना चाहिए। एक नाटक का मंचन एक बार गुजराती और हिंदी के बीच होना चाहिए।

निम्नलिखित में से कौन सा सभी नाटकों के मंचन के लिए सही क्रम होगा?

Ans 1. गुजराती, उर्दू, हिंदी, तेलुगु, तमिल

2. गुजराती, उर्दू, हिंदी, तमिल, तेलुगु

3. गुजराती, तमिल, तेलुगु, उर्दू, हिंदी

4. हिंदी, उर्दू, गुजराती, तमिल, तेलुगु

Question ID : 9895808199

Chosen Option : 2

Q.2
6 महिला विजेताओं को दिया जाने वाला फर्स्ट लेडीज अवार्ड किस मंत्रालय की एक पहल है?

Ans 1. मानव संसाधन विकास मंत्रालय

2. महिला और बाल विकास मंत्रालय

3. सूचना और प्रसारण मंत्रालय

4. जनस्वास्थ्य मंत्रालय

Question ID : 9895807260

Chosen Option : 2

Q.2
7 हमारी अँतड़ी में पाया जाने वाला बैक्टीरिया कौन सा है जो हमें खाना पचाने में मदद करता है?

Ans 1. स्टेफिलोकोकस ऑरियस

2. कैंपाइलोबैक्टर जेजुनी

3. क्लोस्ट्रीडियम बोटुलिनम

4. लेक्टोबेसिल्लस एसिडोफिलस

Question ID : 9895807268

Chosen Option : 4

Q.2
8 पुस्तक 'द इंडिया ऑफ माइ ड्रीम्स' के लेखक कौन हैं?

- Ans
- 1. महात्मा गांधी
 - 2. जवाहर लाल नेहरू
 - 3. राजेन्द्र प्रसाद
 - 4. सरदार वल्लभभाई पटेल

Question ID : 9895807259
Chosen Option : 2

Q.2
9 2010 राष्ट्रमंडल खेल में किस भारतीय तीरंदाज ने महिलाओं की व्यक्तिगत रिकर्व स्पर्धा में स्वर्ण पदक जीता?

- Ans
- 1. लक्ष्मीरानी माझी
 - 2. दीपिका कुमारी
 - 3. बोम्बायला देवी लेशराम
 - 4. दीपिका पल्लीकल

Question ID : 9895807256
Chosen Option : 2

Q.3
0 दुनिया की आधी से अधिक जैव विविधता (पौधों और जानवरों की विविधता) कहाँ पाई जाती है?

- Ans
- 1. कटीले वन
 - 2. शुष्क सदाबहार वन
 - 3. उष्ण-कटिबंधीय वर्षा-वन
 - 4. अर्ध-सदाबहार वन

Question ID : 9895807270
Chosen Option : 3

Q.3
1 औद्योगिक संस्थापनाओं में भार उठाने के लिए जिस हाइड्रोलिक जैक का उपयोग किया जाता है वह भौतिकी के किस नियम पर आधारित है?

- Ans
- 1. आर्किमिडीज सिद्धांत
 - 2. खेल सिद्धांत
 - 3. पास्कल का नियम
 - 4. न्यूटन का नियम

Question ID : 9895807267
Chosen Option : 4

Q.3
2 विश्व में किस देश की साक्षरता दर सबसे अधिक है?

- Ans
- 1. ऑस्ट्रेलिया
 - 2. रूस
 - 3. संयुक्त राज्य
 - 4. जापान

Question ID : 9895807274

Chosen Option : 3

Q.3
3 कौन सी नदी दस देशों से होकर बहती है?

- Ans
- 1. वोल्गा
 - 2. फुरात (इयुफ्रेटीस)
 - 3. दजला (टिगरिस)
 - 4. डैन्यूब

Question ID : 9895807272

Chosen Option : 1

Q.3
4 निम्नलिखित में से कौन सा जानवर बिल/मांद में रहता है?

- Ans
- 1. ऑक्टोपस
 - 2. मगरमच्छ
 - 3. कछुआ
 - 4. खरगोश

Question ID : 9895807269

Chosen Option : 4

Q.3
5 लॉर्ड कर्जन की निगरानी में बंगाल का विभाजन किस वर्ष हुआ था?

- Ans
- 1. 1905
 - 2. 1906
 - 3. 1913
 - 4. 1911

Question ID : 9895807277

Chosen Option : 1

Q.3
6 भारतीय खाद्य निगम (FCI) की स्थापना कब की गई?

- Ans
- 1. 1965
 - 2. 1960
 - 3. 1969
 - 4. 1967

Question ID : 9895807263

Chosen Option : 3

Q.3
7 भारतीय संसद में दिवाला और दिवालियापन संहिता विधेयक किस वर्ष पारित किया गया था?

- Ans
- 1. 2018
 - 2. 2016
 - 3. 2014
 - 4. 2017

Question ID : 9895807265

Chosen Option : 1

Q.3 किस भारतीय को भारत सरकार के लिए 10 बार बजट प्रस्तुत करने का गौरव हासिल है?

Ans

1. प्रणब मुखर्जी
2. डॉ. मनमोहन सिंह
3. मोरारजी देसाई
4. पी. चिदंबरम

Question ID : 9895807262

Chosen Option : 3

Q.3 यदि किसी देश में बजट घटा है, और यह स्थिति लंबे समय तक बनी रहती है, तो इसका परिणाम क्या होगा?

Ans

1. ब्याज दर में कमी
2. अधिशेष बजट
3. बढ़ता कर्ज
4. संतुलित बजट

Question ID : 9895807261

Chosen Option : 3

Q.4 नोंगकर्म नृत्य उत्सव किस भारतीय राज्य में मनाया जाने वाला एक पारंपरिक नृत्य उत्सव है?

Ans

1. गोवा
2. मेघालय
3. मिजोरम
4. सिक्किम

Question ID : 9895807254

Chosen Option : 2

Q.4 दिसंबर 1929 के दौरान कांग्रेस के किस सत्र में 26 जनवरी को 'पूर्ण स्वराज' के दिन के रूप में तय किया गया था, जिसे बाद में संविधान अपनाने की तारीख के रूप में निर्धारित किया गया?

Ans

1. कलकत्ता
2. बंबई
3. लाहौर
4. भोपाल

Question ID : 9895807266

Chosen Option : 1

Q.4 'मज्म उल बहरैन' पुस्तक लिखने वाला मुगल शासक कौन था?

Ans

1. हुमायूँ
2. औरंगजेब

3. बाबर
4. दारा शूकोह

Question ID : 9895807276
Chosen Option : 4

Q.4
3 बर्फ से ढकी चोटियों वाली एकमात्र पर्वत श्रृंखला कौन सी है?

- Ans 1. सह्याद्री
2. हिमालय
3. सतपुड़ा
4. पटकाई

Question ID : 9895807273
Chosen Option : 2

Q.4
4 नॉर्वे का सबसे प्रतिष्ठित पुरस्कार नॉर्वे नेशनल अवार्ड पाने वाले पहले भारतीय अभिनेता कौन है?

- Ans 1. आदिल हुसैन
2. अमिताभ बच्चन
3. दिलीप कुमार
4. नवाज़ुद्दीन सिद्दीकी

Question ID : 9895807258
Chosen Option : 2

Q.4
5 पैरालंपिक स्वर्ण पदक जीतने वाले पहले भारतीय कौन हैं?

- Ans 1. दीपा मलिक
2. वरुण सिंह भारती
3. मरियप्पन थान्गावेलु
4. राजिंदर सिंह

Question ID : 9895807257
Chosen Option : 4

Q.4
6 भारत में वैष्णववाद की वृद्धि का प्रमाण 'हेलिओडोरस स्तंभ', किस भारतीय शहर में स्थित है?

- Ans 1. उज्जैन
2. लखनऊ
3. कानपुर
4. विदिशा

Question ID : 9895807255
Chosen Option : 4

Q.4
7

प्राचीन काल में, बौद्ध काल के दौरान, कपिलवस्तु के शासक कौन थे?

- Ans 1. शाक्य
 2. लिच्छवि
 3. मौर्य
 4. गुप्त

Question ID : 9895807275
 Chosen Option : 1

Q.4 'बागुरुम्बा' भारत की किस जनजाति का पारंपरिक नृत्य है?

- Ans 1. भील
 2. बोड़ो
 3. गारो
 4. मुण्डा

Question ID : 9895807253
 Chosen Option : 2

Q.4 कचरे को एक अस्थायी संग्रहण जगह पर ले जाने से फैलने वाली बीमारियों से बचने के लिए रिहायशी इलाकों से ठोस कचरे के पृथक्करण के लिए किस प्रकार की सफाई व्यवस्था आवश्यक है?

- Ans 1. पारिस्थितिकी
 2. निस्स्यन्दन
 3. भू-भराव
 4. पुनर्चक्रण

Question ID : 9895807271
 Chosen Option : 4

Q.5 भारतीय संविधान में 'मौलिक अधिकारों' की अवधारणा को निम्नलिखित में से किस देश के संविधान से लिया गया है?

- Ans 1. संयुक्त राज्य अमरीका
 2. यूनाइटेड किंगडम
 3. आयरलैंड
 4. सोवियत संघ

Question ID : 9895807264
 Chosen Option : 1

Q.5 एक दुकानदार को अपनी लागत मूल्य पर 10.5% के लाभ की उम्मीद है। यदि एक सप्ताह में, उसकी बिक्री ₹442 की थी, तो उसका लाभ क्या था?

- Ans 1. ₹42
 2. ₹70
 3. ₹72
 4. ₹40

Question ID : 9895807587
Chosen Option : 1

Q.5 2 रीना ने साधारण ब्याज पर ब्याज दर जितने ही वर्षों के लिए ₹1,800 का ऋण लिया। यदि उसने ऋण अवधि के अंत में ब्याज के रूप में ₹ 1,152 का भुगतान किया है, तो ब्याज दर क्या थी?

- Ans
- 1. 8
 - 2. 9
 - 3. 12
 - 4. 6

Question ID : 9895807591
Chosen Option : 2

Q.5 3 25 संख्याओं का औसत शून्य है। उनमें से, ज्यादा से ज्यादा, कितनी शून्य से अधिक हो सकती हैं?

- Ans
- 1. 1
 - 2. 0
 - 3. 24
 - 4. 20

Question ID : 9895807581
Chosen Option : 1

Q.5 4 P और Q की औसत मासिक आय ₹4050 है। Q और R की औसत मासिक आय ₹6350 है और P और R की औसत मासिक आय ₹4800 है। P की मासिक आय (₹ में) कितनी है?

- Ans
- 1. ₹2500
 - 2. ₹2000
 - 3. ₹4800
 - 4. ₹7100

Question ID : 9895807582
Chosen Option : 2

Q.5 5 श्याम के कमरे का आयाम $5\text{ m} \times 3\text{ m} \times 2\text{ m}$ है। कमरे में $2\text{ m} \times 1.5\text{ m}$ आयाम का एक दरवाजा और $1\text{ m} \times 1\text{ m}$ आयामों की एक खिड़की भी है। यदि पेंटिंग की दर ₹1.50 प्रति m^2 है, तो उसके कमरे की चार दीवारों को पेंट करने की लागत (₹ में) कितनी होगी?

- Ans
- 1. 43
 - 2. 42
 - 3. 44
 - 4. 45

Question ID : 9895807598
Chosen Option : 4

Q.5
6

नीचे दिए गए स्तम्भ आलेख का अध्ययन करें, जो 1991 - 1992 से 1998 - 1999 तक एक देश के विदेशी मुद्रा भंडार (मिलियन US \$ में) दर्शाता है, और निम्नलिखित प्रश्न का उत्तर दें।

देश का विदेशी मुद्रा भंडार (मिलियन US \$ में)



1997-98 में विदेशी मुद्रा भंडार 1993-94 से कितना गुना था?

- Ans
- 1. 1.5
 - 2. 3
 - 3. 2.5
 - 4. 2

Question ID : 9895807601
Chosen Option : 4

Q.5 यदि एक दुकानदार पेन पर 20% की छूट और फिर 10% की अतिरिक्त छूट देता है, जिसका अंकित मूल्य ₹750 है, तो पेन का विक्रय मूल्य कितना होगा?

- Ans
- 1. ₹500
 - 2. ₹540
 - 3. ₹625
 - 4. ₹525

Question ID : 9895807583
Chosen Option : 2

Q.5 प्रतीक बाइक से 20 km/h की चाल से 100 km, कार से 30 km/h की चाल से 120 km और अन्य 140 km घोड़ा गाड़ी से 20 km/h की चाल से यात्रा करता है। तो, तय की गई पूरी दूरी के लिए उसकी औसत गति ज्ञात करें।

- Ans
- 1. 22.5 km/h
 - 2. 21.5 km/h
 - 3. 20.5 km/h
 - 4. 19.5 km/h

Question ID : 9895807595
Chosen Option : 3

Q.5 एक विक्रेता ने एक रुपए में 7 टॉफियाँ की दर से टॉफियाँ खरीदीं। 40% लाभ प्राप्त करने के लिए उसे एक रुपए में कितनी टॉफियाँ बेचना चाहिए?

- Ans
- 1. 4
 - 2. 6
 - 3. 7
 - 4. 5

Question ID : 9895807586
Chosen Option : 1

Q.6 दो छात्रों ने एक परीक्षा दी। उनमें से एक ने दूसरे से 12 अंक अधिक हासिल किए और उसके अंक उनके अंकों के योग का 56% थे। दोनों द्वारा प्राप्त अंक कितने हैं?

- Ans 1. 52, 40
 2. 58, 46
 3. 54, 42
 4. 56, 44

Question ID : 9895807585
 Chosen Option : 4

Q.6 जॉन के कमरे का फर्श $10\text{ m} \times 3\text{ m}$ है। वह फर्श पर $15\text{ cm} \times 8\text{ cm}$ वाली टाइल्स लगाने का निर्णय करता है। उसे कितने टाइल्स की जरूरत होगी?

- Ans 1. 3,000 टाइल्स
 2. 3,000 टाइल्स
 3. 2,500 टाइल्स
 4. 2,000 टाइल्स

Question ID : 9895807597
 Chosen Option : 2

Q.6 नीचे दिए गए स्तम्भ आलेख का अध्ययन करें, जो 1991 - 1992 से 1998 - 1999 तक एक देश के विदेशी मुद्रा भंडार (मिलियन US \$ में) दर्शाता है, और निम्नलिखित प्रश्न का उत्तर दें।

देश का विदेशी मुद्रा भंडार (मिलियन US \$ में)



1994-95 में विदेशी मुद्रा भंडार समीक्षाधीन अवधि के औसत विदेशी मुद्रा भंडार का लगभग कितने प्रतिशत था?

- Ans 1. 94%
 2. 95%
 3. 96.5%
 4. 86.5%

Question ID : 9895807602
 Chosen Option : 1

Q.6 तीन संख्याओं का योग 134 है। यदि दूसरी से पहली का अनुपात 3 : 4 है और तीसरी से दूसरी का अनुपात 5 : 8 है, तो दूसरी संख्या क्या है?

- Ans 1. 30
 2. 20
 3. 40
 4. 48

Question ID : 9895807588
 Chosen Option : 4

Q.6
4

नीचे दिए गए स्तम्भ आलेख का अध्ययन करें, जो 1991 - 1992 से 1998 - 1999 तक एक देश के विदेशी मुद्रा भंडार (मिलियन US \$ में) दर्शाता है, और निम्नलिखित प्रश्न का उत्तर दें।

देश का विदेशी मुद्रा भंडार (मिलियन US \$ में)



प्रश्न:

पूर्व वर्ष की तुलना में 1996-1997 के दौरान विदेशी मुद्रा भंडार में प्रतिशत वृद्धि कितनी है?

- Ans
- 1. 35.46%
 - 2. 36.46%
 - 3. 38.46%
 - 4. 48.46%

Question ID : 9895807600

Chosen Option : 1

Q.6 यदि ₹828 को तीन भागों में, आनुपातिक $\frac{1}{2} : \frac{2}{3} : \frac{3}{4}$ में विभाजित किया जाता है, तो दूसरा भाग _____ है।

- Ans
- 1. ₹280
 - 2. ₹288
 - 3. ₹388
 - 4. ₹364

Question ID : 9895807590

Chosen Option : 2

Q.6 a, b, c, d और e का माध्य 28 है। यदि a, c और e का माध्य 24 है, तो b और d का माध्य कितना है?

- Ans
- 1. 31
 - 2. 33
 - 3. 34
 - 4. 32

Question ID : 9895807584

Chosen Option : 3

Q.6 8 का न्यूनतम विभाज्य, जिससे 4 शेषफल रह जाता है, जब 6, 9, 15 और 18 से विभाजित किया जाता है, वह _____ है।

- Ans
- 1. 94
 - 2. 180
 - 3. 184
 - 4. 98

Question ID : 9895807578

Chosen Option : 3

Q.6 A 10 दिनों में एक कार्य कर सकता है और B 15 दिनों। यदि वे 5 दिनों के लिए एक साथ काम करें, तो बचे हुए
8 कार्य का अंश क्या होगा?

Ans

1. $\frac{3}{4}$
2. $\frac{2}{3}$
3. $\frac{1}{6}$
4. $\frac{5}{6}$

Question ID : 9895807593
Chosen Option : 4

Q.6 सरलीकृत करें:

$$12 - 6.4 \div 8 + 0.2 \times 0.7$$

Ans

1. 21.6
2. 22.6
3. 11.34
4. 10.6

Question ID : 9895807580
Chosen Option : 3

Q.7 अमित 10 घंटों में 40 km/h की चाल से एक दूरी तय करता है। यदि वह 8 घंटों में समान दूरी तय करना चाहता है,
0 तो उसकी चाल कितनी होनी चाहिए?

Ans

1. 40 km/h
2. 20 km/h
3. 50 km/h
4. 30 km/h

Question ID : 9895807596
Chosen Option : 3

Q.7 एक समचतुर्भुज का एक विकर्ण दूसरे का 70% है। भुजा के रूप में लंबे विकर्ण का उपयोग करके एक वर्ग तैयार
1 किया जाता है। वर्ग के क्षेत्रफल का उस समचतुर्भुज के क्षेत्रफल से अनुपात क्या होगा?

Ans

1. 20 : 7
2. 30 : 7
3. 14 : 7
4. 10 : 3

Question ID : 9895807599
Chosen Option : 4

Q.7 A एक कार्य 3 घंटों में कर सकता है। B और C मिलकर इसे 4 घंटों में कर सकते हैं, जबकि A और C मिलकर इसे
2 2 घंटों में कर सकते हैं। B को अकेले इसे करने में कितना समय लगेगा?

Ans

1. 14 घंटे
2. 10 घंटे
3. 8 घंटे

✓ 4. 12 घंटे

Question ID : 9895807594
Chosen Option : 4

Q.7 राजू ने एबीसी बैंक में ₹52,000 का निवेश किया। यदि पहले वर्ष की ब्याज दर 12% और दूसरे वर्ष की ब्याज दर 3% पहले वर्ष के ब्याज दर से अधिक थी, दो साल में उसे कितना चक्रवृद्धि ब्याज मिलेगा?

- Ans
- 1. ₹19,764
 - 2. ₹14,976
 - 3. ₹41,967
 - 4. ₹17,964

Question ID : 9895807592
Chosen Option : 2

Q.7 सरलीकृत करें:

$$10.5 - 0.3 \text{ of } (7.4 - 3.4) + 2.8 \times 4.4$$

- Ans
- 1. 20.62
 - 2. 12.62
 - 3. 22.62
 - 4. 21.62

Question ID : 9895807579
Chosen Option : 2

Q.7 एक बैग में, 1: 3: 5 के अनुपात में 25 पैसे, 10 पैसे और 5 पैसे के सिक्के हैं। यदि सब मिला के राशि ₹40 है, तो 5 पैसे के सिक्के कितने हैं?

- Ans
- 1. ₹50
 - 2. ₹150
 - 3. ₹100
 - 4. ₹250

Question ID : 9895807589
Chosen Option : 1

Section : English Language

Q.1 Select the synonym of the given word.

GRUMBLE

- Ans
- 1. Gossip
 - 2. Murmur
 - 3. Moan
 - 4. Whisper

Question ID : 9895807920
Chosen Option : --

Q.2

Select the most appropriate option to substitute the underlined segment in the given sentence. If there is no need to substitute it, select No improvement.

Good planning will see some setting out with an overseas journey without any trouble.

- Ans
- 1. No improvement
 - 2. setting out off an overseas journey
 - 3. setting out on an overseas journey
 - 4. setting out of a overseas journey

Question ID : 9895807908
Chosen Option : --

Q.3 Select the most appropriate option to substitute the underlined segment in the given sentence. If there is no need to substitute it, select No improvement.

Not only the children but also the elders enjoyed the function with equal joy.

- Ans
- 1. No improvement
 - 2. enjoying the function with equal joy.
 - 3. enjoys the function with equal joy.
 - 4. are enjoy the function with equal joy.

Question ID : 9895807910
Chosen Option : --

Q.4 Select the antonym of the given word.

IGNORANCE

- Ans
- 1. Idea
 - 2. Illiteracy
 - 3. Possession
 - 4. Knowledge

Question ID : 9895807922
Chosen Option : --

Q.5 Select the option that means the same as the given idiom.

To scale up

- Ans
- 1. To create a good idea and to try it out
 - 2. To increase the size, amount or importance of
 - 3. To measure something in terms of length and breadth
 - 4. To go high on spending and exceed one's limit

Question ID : 9895807923
Chosen Option : --

Q.6 Select the most appropriate word to fill in the blank.

Scientists estimate that there are about 5 trillion _____ of plastic in the ocean now.

- Ans 1. Pieces
 2. Squares
 3. Blanks
 4. quantities

Question ID : 9895807930
Chosen Option : --

Q.7 Select the correctly spelt word.

- Ans 1. Amamdment
 2. Amindment
 3. Amendement
 4. Amendment

Question ID : 9895807927
Chosen Option : --

Q.8 Select the most appropriate option to substitute the underlined segment in the given sentence. If there is no need to substitute it, select No improvement.

New opportunities to increase your earnings will comes your way at the right moment.

- Ans 1. No improvement
 2. your earnings will come your way
 3. your earnings will come on your way
 4. your earnings will came your way

Question ID : 9895807909
Chosen Option : --

Q.9 From the given options, identify the segment in the sentence which contains the grammatical error.

Most of the adults do not know how to deal with stress, even though they wants to teach their children about it.

- Ans 1. even though
 2. how to deal with stress
 3. Most of the adults
 4. wants to teach their children

Question ID : 9895807905
Chosen Option : --

Q.10 Select the most appropriate word to fill in the blank.

The _____ chosen for construction of the office is in the heart of the locality.

- Ans 1. sight
 2. slight
 3. site
 4. cite

Question ID : 9895807929
Chosen Option : --

Q.1
1 Select the most appropriate option to fill in the blank.

Fast food _____ much energy to digest, leaving a person unfit after its consumption.

- Ans
- 1. need
 - 2. needing
 - 3. needs
 - 4. needed

Question ID : 9895807912

Chosen Option : --

Q.1
2 From the given options, identify the segment in the sentence which contains the grammatical error.

It is known to all that the company is exceptionally clear about its policies regarding the welfares of the employees.

- Ans
- 1. It is known to all
 - 2. exceptionally clear about
 - 3. welfares of the employees
 - 4. the company is

Question ID : 9895807907

Chosen Option : --

Q.1
3 From the given options, identify the segment in the sentence which contains the grammatical error.

It took Mr. Sharma more than six month of research to find out a perfect remedy for the malady.

- Ans
- 1. to find out
 - 2. It took Mr. Sharma
 - 3. remedy for the malady
 - 4. more than six month

Question ID : 9895807906

Chosen Option : --

Q.1
4 Select the most appropriate option to fill in the blank.

For _____ people, the experience of having lived a dream is more than just a feeling.

- Ans
- 1. more
 - 2. many
 - 3. much
 - 4. a lot

Question ID : 9895807911

Chosen Option : --

Comprehension:

In the following passage some words have been deleted. Fill in the blanks with the help of the alternatives given.

WHO has declared obesity as a global (1) _____
Earlier, obesity was seen as a disease of high-income countries only. But now, the global trend has been observed. There is an (2) _____ need of making the public aware about the (3) _____ effects of obesity. Outdoor sports and activities should be encouraged by (4) _____ the school authorities and parents to tackle the rising cases of childhood obesity. Healthy eating habits and an active life style should be (5) _____ by the individuals of all age groups and genders, to prevent obesity.

SubQuestion No : 15

Q.1
5 Select the most appropriate option that will fill in the blank number 1.

- Ans
- 1. outbreak
 - 2. epidemic
 - 3. infection
 - 4. contagion

Question ID : 9895807914
Chosen Option : --

Comprehension:

In the following passage some words have been deleted. Fill in the blanks with the help of the alternatives given.

WHO has declared obesity as a global (1) _____
Earlier, obesity was seen as a disease of high-income countries only. But now, the global trend has been observed. There is an (2) _____ need of making the public aware about the (3) _____ effects of obesity. Outdoor sports and activities should be encouraged by (4) _____ the school authorities and parents to tackle the rising cases of childhood obesity. Healthy eating habits and an active life style should be (5) _____ by the individuals of all age groups and genders, to prevent obesity.

SubQuestion No : 16

Q.1
6 Select the most appropriate option that will fill in the blank number 2.

- Ans
- 1. acute
 - 2. quick
 - 3. thrilling
 - 4. exciting

Question ID : 9895807915
Chosen Option : --

Comprehension:

In the following passage some words have been deleted. Fill in the blanks with the help of the alternatives given.

WHO has declared obesity as a global (1) _____
Earlier, obesity was seen as a disease of high-income countries only. But now, the global trend has been observed. There is an (2) _____ need of making the public aware about the (3) _____ effects of obesity. Outdoor sports and activities should be encouraged by (4) _____ the school authorities and parents to tackle the rising cases of childhood obesity. Healthy eating habits and an active life style should be (5) _____ by the individuals of all age groups and genders, to prevent obesity.

SubQuestion No : 17

Q.1
7 Select the most appropriate option that will fill in the blank number 3.

- Ans
- 1. unimportant
 - 2. dull
 - 3. serious
 - 4. lonely

Question ID : 9895807916
Chosen Option : --

Comprehension:

In the following passage some words have been deleted. Fill in the blanks with the help of the alternatives given.

WHO has declared obesity as a global (1) _____
Earlier, obesity was seen as a disease of high-income countries only. But now, the global trend has been observed. There is an (2) _____ need of making the public aware about the (3) _____ effects of obesity. Outdoor sports and activities should be encouraged by (4) _____ the school authorities and parents to tackle the rising cases of childhood obesity. Healthy eating habits and an active life style should be (5) _____ by the individuals of all age groups and genders, to prevent obesity.

SubQuestion No : 18

Q.1
8 Select the most appropriate option that will fill in the blank number 4.

- Ans
- 1. some
 - 2. either
 - 3. neither
 - 4. both

Question ID : 9895807917
Chosen Option : --

Comprehension:

In the following passage some words have been deleted. Fill in the blanks with the help of the alternatives given.

WHO has declared obesity as a global (1) _____
Earlier, obesity was seen as a disease of high-income countries only. But now, the global trend has been observed. There is an (2) _____ need of making the public aware about the (3) _____ effects of obesity. Outdoor sports and activities should be encouraged by (4) _____ the school authorities and parents to tackle the rising cases of childhood obesity. Healthy eating habits and an active life style should be (5) _____ by the individuals of all age groups and genders, to prevent obesity.

SubQuestion No : 19

Q.1
9 Select the most appropriate option that will fill in the blank number 5.

- Ans
- 1. conformed
 - 2. adapted
 - 3. discarded
 - 4. adopted

Question ID : 9895807918
Chosen Option : --

Q.2
0 Select the word which means the same as the group of words given.

A person who compiles dictionaries.

- Ans
- 1. Writer
 - 2. Lexicographer
 - 3. Linguist
 - 4. Author

Question ID : 9895807926
Chosen Option : --

Q.2
1 Select the option that means the same as the given idiom.

To break the ice

- Ans
- 1. To eliminate shyness

2. To melt ice cubes
 3. To avoid social gatherings
 4. To avoid someone

Question ID : 9895807924
Chosen Option : --

Q.2
2 Select the antonym of the given word.

DOMINANT

- Ans 1. Slow
 2. Gentle
 3. Fixed
 4. Submissive

Question ID : 9895807921
Chosen Option : --

Q.2
3 Select the synonym of the given word.

ANGUISH

- Ans 1. Peace
 2. Ache
 3. Solace
 4. Security

Question ID : 9895807919
Chosen Option : --

Q.2
4 Select the correctly spelt word.

- Ans 1. Banevolent
 2. Benevolent
 3. Benevolent
 4. Benobolent

Question ID : 9895807928
Chosen Option : --

Q.2
5 Select the word which means the same as the group of words given.

A person employed to drive a private or hired car.

- Ans 1. Chauffeur
 2. Transporter
 3. Rider
 4. Pilot

Question ID : 9895807925
Chosen Option : --

Section : Hindi Language

Q.1 दिए गए वाक्य का वह भाग ज्ञात करें जिसमें कोई त्रुटि है।

मिस्टर शामनाथ ने घूमकर माँ की कोठरी की ओर देखी।

Ans

✓ 1. की ओर देखी।

✗ 2. घूमकर

✗ 3. माँ की कोठरी

✗ 4. मिस्टर शामनाथ ने

Question ID : 9895806685

Chosen Option : 1

Comprehension:

निम्नलिखित गद्यांश के रिक्त स्थानों की पूर्ति गद्यांश के नीचे दिए गए प्रश्नों के अनुसार कीजिए -

आदमी की पहचान उसकी _____ (1) से होती है और भाषा संस्कार से बनती है। जिसके जैसे संस्कार होंगे, वैसी ही उसकी भाषा होगी। जब कोई आदमी भाषा बोलता है तो साथ में उसके _____ (2) भी बोलते हैं। यही कारण है कि भाषा शिक्षक का दायित्व गुरुतर और _____ (3) है। केवल यांत्रिक कौशल किसी जीती-जागती भाषा का _____ (4) नहीं हो सकते हैं। केवल संप्रेषण ही भाषा नहीं है, _____ (5) के बिना कोई भाषा जीवंत नहीं हो सकती।

SubQuestion No : 2

Q.2 गद्यांश में संकेतित रिक्त स्थान (1) के लिए उपयुक्त शब्द होगा -

Ans

✗ 1. खान-पान

✓ 2. भाषा

✗ 3. शिक्षा

✗ 4. पहनावे

Question ID : 9895806694

Chosen Option : 2

Comprehension:

निम्नलिखित गद्यांश के रिक्त स्थानों की पूर्ति गद्यांश के नीचे दिए गए प्रश्नों के अनुसार कीजिए -

आदमी की पहचान उसकी _____ (1) से होती है और भाषा संस्कार से बनती है। जिसके जैसे संस्कार होंगे, वैसी ही उसकी भाषा होगी। जब कोई आदमी भाषा बोलता है तो साथ में उसके _____ (2) भी बोलते हैं। यही कारण है कि भाषा शिक्षक का दायित्व गुरुतर और _____ (3) है। केवल यांत्रिक कौशल किसी जीती-जागती भाषा का _____ (4) नहीं हो सकते हैं। केवल संप्रेषण ही भाषा नहीं है, _____ (5) के बिना कोई भाषा जीवंत नहीं हो सकती।

SubQuestion No : 3

Q.3 गद्यांश में संकेतित रिक्त स्थान (2) के लिए उपयुक्त शब्द होगा -

- Ans
- 1. संस्कार
 - 2. अधिकार
 - 3. कर्तव्य
 - 4. दुर्गुण

Question ID : 9895806695
Chosen Option : 1

Comprehension:

निम्नलिखित गद्यांश के रिक्त स्थानों की पूर्ति गद्यांश के नीचे दिए गए प्रश्नों के अनुसार कीजिए -

आदमी की पहचान उसकी _____ (1) से होती है और भाषा संस्कार से बनती है। जिसके जैसे संस्कार होंगे, वैसी ही उसकी भाषा होगी। जब कोई आदमी भाषा बोलता है तो साथ में उसके _____ (2) भी बोलते हैं। यही कारण है कि भाषा शिक्षक का दायित्व गुरुतर और _____ (3) है। केवल यांत्रिक कौशल किसी जीती-जागती भाषा का _____ (4) नहीं हो सकते हैं। केवल संप्रेषण ही भाषा नहीं है, _____ (5) के बिना कोई भाषा जीवंत नहीं हो सकती।

SubQuestion No : 4

Q.4 गद्यांश में संकेतित रिक्त स्थान (3) के लिए उपयुक्त शब्द होगा -

- Ans
- 1. अप्रासंगिक
 - 2. चुनौतीपूर्ण

3. निरर्थक

4. सरल

Question ID : 9895806696

Chosen Option : 4

Comprehension:

निम्नलिखित गद्यांश के रिक्त स्थानों की पूर्ति गद्यांश के नीचे दिए गए प्रश्नों के अनुसार कीजिए -

आदमी की पहचान उसकी _____ (1) से होती है और भाषा संस्कार से बनती है। जिसके जैसे संस्कार होंगे, वैसी ही उसकी भाषा होगी। जब कोई आदमी भाषा बोलता है तो साथ में उसके _____ (2) भी बोलते हैं। यही कारण है कि भाषा शिक्षक का दायित्व गुरुतर और _____ (3) है। केवल यांत्रिक कौशल किसी जीती-जागती भाषा का _____ (4) नहीं हो सकते हैं। केवल संप्रेषण ही भाषा नहीं है, _____ (5) के बिना कोई भाषा जीवंत नहीं हो सकती।

SubQuestion No : 5

Q.5 गद्यांश में संकेतित रिक्त स्थान (4) के लिए उपयुक्त शब्द होगा -

- Ans
1. तर्क
2. धारण
3. उदाहरण
4. प्रसारण

Question ID : 9895806697

Chosen Option : 1

Comprehension:

निम्नलिखित गद्यांश के रिक्त स्थानों की पूर्ति गद्यांश के नीचे दिए गए प्रश्नों के अनुसार कीजिए -

आदमी की पहचान उसकी _____ (1) से होती है और भाषा संस्कार से बनती है। जिसके जैसे संस्कार होंगे, वैसी ही उसकी भाषा होगी। जब कोई आदमी भाषा बोलता है तो साथ में उसके _____ (2) भी बोलते हैं। यही कारण है कि भाषा शिक्षक का दायित्व गुरुतर और _____ (3) है। केवल यांत्रिक कौशल किसी जीती-जागती भाषा का _____ (4) नहीं हो सकते हैं। केवल संप्रेषण ही भाषा नहीं है, _____ (5) के बिना कोई भाषा जीवंत नहीं हो सकती।

SubQuestion No : 6

Q.6

गद्यांश में संकेतित रिक्त स्थान (5) के लिए उपयुक्त शब्द होगा -

- Ans
- 1. आस्था
 - 2. तथ्य
 - 3. संवेदना
 - 4. कृपा

Question ID : 9895806698
Chosen Option : 3

Q.7 दिए गए शब्द के पर्यायवाची शब्द का चयन करें।

व्यथा

- Ans
- 1. अधीर
 - 2. बात
 - 3. पीड़ा
 - 4. जीवनी

Question ID : 9895806702
Chosen Option : 3

Q.8 दिये गये वाक्यांश के लिए एक शब्द दीजिये।

जिसकी आयु लम्बी हो

- Ans
- 1. अल्पायु
 - 2. वायु
 - 3. दीर्घायु
 - 4. जटायु

Question ID : 9895806705
Chosen Option : 3

Q.9 निम्नलिखित में से उस विकल्प का चयन करें जो 'जूतियाँ चटकाना' मुहावरे का अर्थ व्यक्त करता है।

- Ans
- 1. जूतियाँ बनाना
 - 2. व्यर्थ इधर-उधर घूमना
 - 3. जूतियाँ पटकना
 - 4. नुकसान करना

Question ID : 9895806704
Chosen Option : 2

Q.1
0

दिए गए वाक्य में रेखांकित खंड को प्रतिस्थापित करने के लिए उपयुक्त विकल्प का चयन करें।

मैं इस कृपा के लिए उपकृत हूँ।

- Ans
- 1. धन्यवाद
 - 2. उपकारी
 - 3. अनुचर
 - 4. कृतज्ञ

Question ID : 9895806686
Chosen Option : 4

Q.1
1 दिए गए शब्द के पर्यायवाची शब्द का चयन करें।

केशव

- Ans
- 1. गोपाल
 - 2. कान
 - 3. केश
 - 4. बाल

Question ID : 9895806701
Chosen Option : 1

Q.1
2 रिक्त स्थान को भरने के लिए उपयुक्त शब्द का चयन करें।

तुम्हें रोटी खानी है _____ चावल खाने है।

- Ans
- 1. किंतु
 - 2. या
 - 3. परंतु
 - 4. साथ

Question ID : 9895806691
Chosen Option : 2

Q.1
3 दिए गए वाक्य का वह भाग ज्ञात करें जिसमें कोई त्रुटि है।

हमारे प्रदेश का सबसे पुरानी और प्रसिद्ध राष्ट्रीय उद्यान कहाँ है?

- Ans
- 1. सबसे पुरानी
 - 2. राष्ट्रीय उद्यान कहाँ है?
 - 3. हमारे प्रदेश का
 - 4. और प्रसिद्ध

Question ID : 9895806684
Chosen Option : 1

Q.1
4

रिक्त स्थान को भरने के लिए उपयुक्त शब्द का चयन करें।

तोता _____ में उड़ रहा है।

- Ans 1. आकाश
 2. नदी
 3. पाताल
 4. पहाड़

Question ID : 9895806692
 Chosen Option : 1

Q.1
 5 दिए गए शब्द का विलोम चुनें।

तम

- Ans 1. प्रकाश
 2. तमगा
 3. तेज
 4. तिमिर

Question ID : 9895806700
 Chosen Option : 1

Q.1
 6 रिक्त स्थान को भरने के लिए उपयुक्त शब्द का चयन करें।

कालिदास कवियों _____ श्रेष्ठ हैं।

- Ans 1. की
 2. में
 3. पर
 4. को

Question ID : 9895806690
 Chosen Option : 2

Q.1
 7 दिए गए वाक्य में रेखांकित खंड को प्रतिस्थापित करने के लिए उपयुक्त विकल्प का चयन करें।

किसान गगन की ओर निहार रहे हैं।

- Ans 1. खगेश
 2. व्योमेश
 3. सूर्य
 4. आकाश

Question ID : 9895806688
 Chosen Option : 4

Q.1
 8

दिए गए वाक्य में रेखांकित खंड को प्रतिस्थापित करने के लिए उपयुक्त विकल्प का चयन करें।

उस बालक को पिटते देखकर मेरा हृदय पिघल गया।

Ans

- 1. हर्षित हो
- 2. कुंठित हो
- 3. द्रवित हो
- 4. संघनित हो

Question ID : 9895806687
Chosen Option : 3

Q.1
9

दिए गए वाक्य का वह भाग ज्ञात करें जिसमें कोई त्रुटि है।

डॉ. अब्दुल कलाम और मिसाइल एक-दूसरे के पूरक हो गया है।

Ans

- 1. पूरक हो गया है।
- 2. और मिसाइल
- 3. डॉ. अब्दुल कलाम
- 4. एक-दूसरे के

Question ID : 9895806683
Chosen Option : 1

Q.2
0

दिए गए शब्द का विलोम चुनें।

तरुण

Ans

- 1. जवान
- 2. पत्ता
- 3. नया
- 4. वृद्ध

Question ID : 9895806699
Chosen Option : 1

Q.2
1

रिक्त स्थान को भरने के लिए उपयुक्त शब्द का चयन करें।

रात की नींद _____ होती है।

Ans

- 1. तीव्र
- 2. मोटी
- 3. गहरी
- 4. हरी

Question ID : 9895806689
Chosen Option : 3

Q.2
2 सही वर्तनी वाले शब्द का चयन करें।

- Ans
- 1. दीर्घसवास
 - 2. दीरगश्वास
 - 3. दीर्घश्वास
 - 4. दिर्घश्वास

Question ID : 9895806707
Chosen Option : 3

Q.2
3 सही वर्तनी वाले शब्द का चयन करें।

- Ans
- 1. दूःस्वप्न
 - 2. दुःस्वप्न
 - 3. दूसवप्न
 - 4. दुसवप्न

Question ID : 9895806708
Chosen Option : 2

Q.2
4 दिये गये वाक्यांश के लिए एक शब्द दीजिये।

नीचे लिखी हुई

- Ans
- 1. हस्तलिखित
 - 2. उपलिखित
 - 3. निम्नलिखित
 - 4. स्वलिखित

Question ID : 9895806706
Chosen Option : 3

Q.2
5 निम्नलिखित में से उस विकल्प का चयन करें जो 'मुँह फूलाना' मुहावरे का अर्थ व्यक्त करता है।

- Ans
- 1. अप्रसन्न होना
 - 2. मुँह सुजाना
 - 3. मुँह में हवा भर जाना
 - 4. सूजन आना

Question ID : 9895806703
Chosen Option : 1

Constable (GD) in CAPFs, NIA, SSF and Rifleman (GD) in Assam Rifles Examination, 2018

Roll No. :	
Registration No.	
Name :	
Exam Venue :	
Exam Time :	9:00 AM - 10:30 AM
Exam Date :	02/03/2019

Section : General Section

Q.1 दी गई श्रृंखला में अगली संख्या ज्ञात करें।

37, 45, 53, 61, ?

- Ans
- 1. 69
 - 2. 72
 - 3. 62
 - 4. 65

Question ID : 9895808227
Chosen Option : 1

Q.2 कक्षा की बेंच पर कुछ छात्र बैठे हैं। आनंद बाएं ओर से 7 वें स्थान पर बैठा है। विनॉय दाएं ओर से 5 वें स्थान पर बैठा है। आनंद और विनॉय के बीच में पांच छात्र बैठे हैं। कुल मिलाकर, कक्षा में बेंच की छह पंक्तियाँ हैं, जिनमें से सभी पर समान संख्या में छात्र बैठे हैं। कक्षा में छात्रों की कुल संख्या कितनी है?

- Ans
- 1. 122
 - 2. 99
 - 3. 114
 - 4. 102

Question ID : 9895808222
Chosen Option : 1

Q.3 असंगत का चयन करें।

- Ans
- 1. GTHU
 - 2. ANBO
 - 3. EFRS
 - 4. CODQ

Question ID : 9895808215
Chosen Option : 3

Q.4 केवल एक रनवे है जो बारी - बारी से सात उड़ानों द्वारा उपयोग किया जाएगा। P और Q रनवे का उपयोग न तो पहले करेंगे और न ही अंत में। S, R के बाद इसका दूसरा उपयोग करेगा। M, O के पहले इसका दूसरा उपयोग करेगा। N, O के बाद और R के पहले इसका उपयोग करेगा। Q, R के ठीक पहले उपयोग करेगा। M से ठीक बाद रनवे का उपयोग कौन करेगा?

- Ans
- 1. Q
 - 2. O

✓ 3. P

✗ 4. N

Question ID : 9895808224

Chosen Option : 2

Q.5 उस विकल्प का चयन करें जो दर्पण के दायीं ओर रखे जाने पर दिए गए शब्द की दर्पण छवि से सर्वाधिक मेल खाता है।

INTROVERT

Ans ✗ 1. TЯOYBRTI

✗ 2. IИKQΛEKL

✓ 3. TЯBVOYRTI

✗ 4. IИKQΛOKEL

Question ID : 9895808236

Chosen Option : 2

Q.6 दी गई श्रृंखला में अगली संख्या ज्ञात करें।

6, 12, 21, 32, ?

Ans ✗ 1. 53

✗ 2. 49

✓ 3. 47

✗ 4. 41

Question ID : 9895808228

Chosen Option : 4

Q.7 उस विकल्प का चयन करें जो तीसरे पद से उसी प्रकार संबंधित है जिस प्रकार दूसरा पद पहले पद से संबंधित है।

CC : GD :: LE : ?

Ans ✓ 1. PF

✗ 2. EE

✗ 3. PD

✗ 4. RF

Question ID : 9895808219

Chosen Option : 4

Q.8 कौन सा विकल्प प्रश्न चिह्न के स्थान पर आएगा और दी गई आकृति श्रृंखला को पूरा करेगा?



Ans

✗ 1.



✓ 2.



✗ 3.



✗ 4.



Question ID : 9895808233

Chosen Option : 2

Q.9 यदि एक निश्चित कूट भाषा में APRON को BRUSR के रूप में लिखा जाता है, तो उसी कूट में STOVE को कैसे लिखा जाएगा?

- Ans ✓ 1. TVRZI
 ✗ 2. VRTJZ
 ✗ 3. TVRZJ
 ✗ 4. TRVJZ

Question ID : 9895808220

Chosen Option : 1

Q.1 उस विकल्प का चयन करें जो तीसरे पद से उसी प्रकार संबंधित है जिस प्रकार दूसरा पद पहले पद से संबंधित है।

2 : 12 :: 5 : ?

- Ans ✓ 1. 30
 ✗ 2. 20
 ✗ 3. 10
 ✗ 4. 15

Question ID : 9895808229

Chosen Option : 2

Q.1 उस विकल्प का चयन करें जो तीसरे पद से उसी प्रकार संबंधित है जिस प्रकार दूसरा पद पहले पद से संबंधित है।

थर्मामीटर : तापमान :: लैक्टोमीटर : ?

- Ans ✗ 1. शहद
 ✗ 2. वर्षा
 ✗ 3. हवा
 ✓ 4. दूध

Question ID : 9895808217

Chosen Option : 4

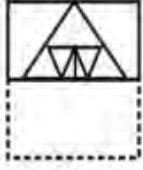
Q.1
2

एक पैटर्न के साथ एक चौकोर पारदर्शी कागज पत्रक दिया गया है। जब पारदर्शी कागज पत्रक को बिंदुंकित रेखा पर मोड़ा जाता है तो पैटर्न कैसे दिखाई देगा?

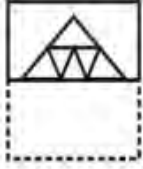


Ans

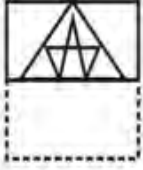
✗ 1.



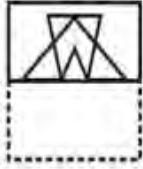
✓ 2.



✗ 3.



✗ 4.



Question ID : 9895808237
Chosen Option : 2

Q.1 नीचे दिए गए कथनों के बाद दो निष्कर्ष I और II दिए गए हैं। यह मानते हुए कि कथनों में दी गई जानकारी सत्य है, भले ही वह सर्वज्ञात तथ्यों से भिन्न प्रतीत होती हो और यह निर्णय करें कि कौन सा/से निष्कर्ष तार्किक रूप से और निश्चित रूप से कथन में दी गई जानकारी का अनुसरण करता है/करते हैं।

कथन:

- I. अधिकांश कवि लड़के हैं।
- II. कुछ लड़के चित्रकार हैं।

निष्कर्ष:

- I. कुछ चित्रकार लड़के हैं।
- II. कुछ कवि चित्रकार हैं।

Ans

✗ 1. निष्कर्ष I और II दोनों अनुसरण करते हैं।

✓ 2. केवल निष्कर्ष I अनुसरण करता है।

✗ 3. केवल निष्कर्ष II अनुसरण करता है।

✗ 4. या तो निष्कर्ष I या II अनुसरण करता है।

Question ID : 9895808225
Chosen Option : 3

Q.1
4

नीचे दिए गए कथनों के बाद दो निष्कर्ष I और II दिए गए हैं। यह मानते हुए कि कथनों में दी गई जानकारी सत्य है, भले ही वह सर्वज्ञात तथ्यों से भिन्न प्रतीत होती हो और यह निर्णय करें कि कौन सा/से निष्कर्ष तार्किक रूप से और निश्चित रूप से कथन में दी गई जानकारी का अनुसरण करता है/करते हैं।

कथन:

- I. सभी पेंसिल गलियाँ हैं।
- II. सभी गलियाँ कुटियाँ हैं।

निष्कर्ष:

- I. सभी कुटियाँ पेंसिल हैं।
- II. कुछ कुटियाँ पेंसिल हैं।

Ans

1. या तो निष्कर्ष I या II अनुसरण करता है।
2. केवल निष्कर्ष I अनुसरण करता है।
3. केवल निष्कर्ष II अनुसरण करता है।
4. निष्कर्ष I और II दोनों अनुसरण करते हैं।

Question ID : 9895808226
Chosen Option : 2

Q.1 उस विकल्प का चयन करें जो तीसरे पद से उसी प्रकार संबंधित है जिस प्रकार दूसरा पद पहले पद से संबंधित है।

5 मछली : प्लवक :: मेंढक : ?

Ans

1. जड़ी-बूटी
2. कीट
3. अपतृण
4. सूखी घास

Question ID : 9895808218
Chosen Option : 2

Q.1 दी गई श्रृंखला में आगे अक्षरों की कौन सी जोड़ी होनी चाहिए?

6 AB, DE, GH, JK, ?

Ans

1. PQ
2. MN
3. UW
4. RT

Question ID : 9895808214
Chosen Option : 2

Q.1
7

दिए गए विकल्पों में से लुप्त संख्या ज्ञात करें।

4	15	35
13	21	42
9	6	?

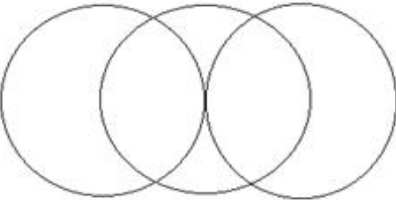

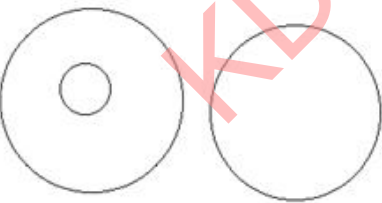
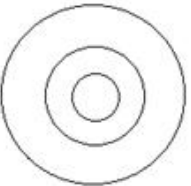
- Ans
1. 15
2. 7
3. 12
4. 11

Question ID : 9895808231
Chosen Option : 3

Q.1 वेन आरेख का चयन करें जो तीन दिए गए वर्गों के बीच के संबंध को सर्वोत्तम दर्शाता है।

कलम, मेज, लेखनसामग्री

Ans

1. 
2. 
3. 
4. 

Question ID : 9895808238
Chosen Option : 2

Q.1 उस विकल्प का चयन करें जो प्रश्न चिह्न के स्थान पर आएगा और दिए गए पैटर्न को पूरा करेगा।



Ans



Question ID : 9895808234
Chosen Option : 2

Q.2 आठ मित्र A, B, C, D, E, F, H और G समूह चर्चा के लिए एक गोलाकार मेज के चारों ओर आमने - सामने बैठे हैं। A, F के सामने और E के दाएँ से दूसरा है। B और D आमने - सामने बैठे हैं। G, C और A. के बीच में है। H, E के बाएँ ओर है। E के सामने कौन बैठा है?

- Ans 1. D
 2. F
 3. C
 4. B

Question ID : 9895808223
Chosen Option : 1

Q.2 चार संख्याएँ दी गई हैं जिनमें से तीन संख्याएँ किसी न किसी रूप में समान हैं, जबकि एक संख्या भिन्न है। असंगत संख्या चुनिए।

- Ans 1. 676
 2. 571
 3. 361
 4. 484

Question ID : 9895808230
Chosen Option : 4

Q.2 यदि एक निश्चित कूट में HOUSE को 68 के रूप में लिखा जाता है, तो उसी कूट में CASTLE को कैसे लिखा जाएगा?

- Ans 1. 72
 2. 60
 3. 84
 4. 59

Question ID : 9895808221
Chosen Option : 2

Q.2 चार शब्द दिए गए हैं, जिनमें से तीन किसी तरह से समान हैं, जबकि एक अलग है। असंगत शब्द का चयन करें।

- Ans 1. दौड़ा-दौड़ी

2. तीव्र गति
3. हड़बड़ी
4. मंदगति

Question ID : 9895808216
Chosen Option : 3

Q.2 विकल्पों में से उस आकृति की पहचान करें जिसमें दी गई आकृति अंतर्निहित है। (घुमाने की अनुमति नहीं है)



Ans

- 1.
- 2.
- 3.
- 4.

Question ID : 9895808235
Chosen Option : 3

Q.2 यदि '+' का अर्थ 'जोड़' है, '-' का अर्थ 'घटाव' है, '-' का अर्थ 'गुणा' है और 'x' का अर्थ 'विभाजन' है तो निम्नलिखित समीकरण का मान क्या होगा?

$$48 \times 6 - 5 + 8 + 1 = ?$$

Ans

1. 53
2. 49
3. 47
4. 56

Question ID : 9895808232
Chosen Option : 1

Q.2 _____ वह दर है जिस पर वाणिज्यिक बैंक निधियों की कमी के मामले में भारतीय रिज़र्व बैंक (RBI) से उधार लेते हैं।

Ans

1. विनिमय दर
2. बाजार दर
3. रेपो दर

4. रिवर्स रेपो दर

Question ID : 9895807286
Chosen Option : 2

Q.2
7 असम के आहोम साम्राज्य और मुगलों के बीच हुई सरायघाट की लड़ाई किस वर्ष हुई थी?

- Ans 1. 1671
 2. 1652
 3. 1635
 4. 1642

Question ID : 9895807301
Chosen Option : 1

Q.2
8 _____ के कारण खसरा की बीमारी होती है।

- Ans 1. वायरस
 2. कवक
 3. बैक्टीरिया
 4. अमीबा

Question ID : 9895807296
Chosen Option : 1

Q.2
9 92 साल तक अलग रहने के बाद रेल बजट को किस साल केंद्रीय बजट में शामिल किया गया?

- Ans 1. 2014-15
 2. 2018-19
 3. 2015-16
 4. 2017-18

Question ID : 9895807287
Chosen Option : 4

Q.3
0 असम में पारंपरिक घरों को स्टिल्ट पर क्यों बनाया जाता है?

- Ans 1. बाढ़ और वन्यजीवों का खतरा
 2. भारी सूखे का खतरा
 3. अस्वास्थ्यकर परिस्थितियों का खतरा
 4. संदूषण का खतरा

Question ID : 9895807298
Chosen Option : 1

Q.3
1 राजबाड़ी के अखंड खंडहर किस भारतीय राज्य में स्थित हैं?

- Ans 1. मिजोरम
 2. मेघालय
 3. असम

✓ 4. नागालैंड

Question ID : 9895807280
Chosen Option : 3

Q.3
2 जब भारतीय संविधान को अपनाया गया, तब इसमें कितनी अनुसूचियां थीं?

- Ans
- ✗ 1. 12
 - ✗ 2. 10
 - ✗ 3. 6
 - ✓ 4. 8

Question ID : 9895807291
Chosen Option : 3

Q.3
3 किस तरह की जलवायु चाय के बागान के लिए सबसे उपयुक्त है?

- Ans
- ✓ 1. गर्म और नम
 - ✗ 2. शुष्क और धूल भरा
 - ✗ 3. बहुत ठंडा मौसम
 - ✗ 4. शुष्क और वातिक

Question ID : 9895807295
Chosen Option : 2

Q.3
4 एक गैण्डे के सींग और मानव बाल में मौजूद संरचनात्मक प्रोटीन का नाम क्या है?

- Ans
- ✗ 1. एमिनो एसिड
 - ✗ 2. मेलेनिन
 - ✗ 3. ग्लाइकोलाइटिक
 - ✓ 4. केराटिन

Question ID : 9895807294
Chosen Option : 3

Q.3
5 किस खिलाड़ी ने टेस्ट क्रिकेट में सर्वाधिक प्लेयर ऑफ़ द मैच पुरस्कार जीते हैं?

- Ans
- ✗ 1. मुथैया मुरलीधरन
 - ✗ 2. शेन वार्न
 - ✓ 3. जैक्स कैलिस
 - ✗ 4. सचिन तेंडुलकर

Question ID : 9895807283
Chosen Option : 4

Q.3
6 मार्शल आर्ट 'थांग टा' किस भारतीय राज्य से संबंधित है?

- Ans
- ✗ 1. सिक्किम

2. मणिपुर

3. असम

4. ओडिशा

Question ID : 9895807281
Chosen Option : 2

Q.3
7 मार्शल आर्ट 'डम्बे' किस महाद्वीप से संबंधित है?

Ans 1. अफ्रीका

2. यूरोप

3. ऑस्ट्रेलिया

4. अमेरिका

Question ID : 9895807282
Chosen Option : 2

Q.3
8 इथेनाॅलका उत्पादन किस प्रक्रिया द्वारा किया जाता है?

Ans 1. लवणीकरण

2. अनुमापन

3. किण्वन

4. संयोजन

Question ID : 9895807293
Chosen Option : 1

Q.3
9 भारत के किस राज्य में भगोरिया हाट उत्सव मनाया जाता है?

Ans 1. बिहार

2. मध्य प्रदेश

3. उत्तर प्रदेश

4. राजस्थान

Question ID : 9895807279
Chosen Option : 4

Q.4
0 'ट्रेन टू पाकिस्तान' निम्नलिखित में से किस लेखक द्वारा लिखी गई पुस्तक है?

Ans 1. मोहसिन हामिद

2. खुशवंत सिंह

3. रस्किन बॉन्ड

4. सआदत हसन मंटो

Question ID : 9895807284
Chosen Option : 4

Q.4

1 कन्या भ्रूण हत्या की प्रथा को रोकने के लिए भारत सरकार ने गर्भधारण-पूर्व और प्रसव पूर्व निदान तकनीक (PNDT) अधिनियम कब पारित किया?

- Ans 1. 1994
 2. 1991
 3. 1996
 4. 1992

Question ID : 9895807290
 Chosen Option : 3

Q.4 2 पश्चिमी घाट की पश्चिमी ढलानें पूर्वी ढलानों की तुलना में घने जंगलों से ढकी क्यों हैं?

- Ans 1. अधिक वर्षा होती है
 2. कम वर्षा होती है
 3. कम प्रकाश पड़ता है
 4. अधिक प्रकाश पड़ता है

Question ID : 9895807297
 Chosen Option : 2

Q.4 3 भारत में 'एकल नागरिकता' की अवधारणा को निम्नलिखित में से किस राष्ट्र के संविधान के आधार पर अपनाया गया?

- Ans 1. संयुक्त राज्य अमेरिका
 2. रूस
 3. यूनाइटेड किंगडम
 4. आयरलैंड

Question ID : 9895807289
 Chosen Option : 1

Q.4 4 पारंपरिक तापदीप्त बल्ब में फिलामेंट किस धातु का बना होता है?

- Ans 1. लोहा
 2. तांबा
 3. टंगस्टन
 4. प्लैटिनम

Question ID : 9895807292
 Chosen Option : 3

Q.4 5 लोकप्रिय नृत्य 'बिदेसिया' किस भारतीय राज्य से संबंधित है?

- Ans 1. ओडिशा
 2. बिहार
 3. पश्चिम बंगाल
 4. झारखंड

Question ID : 9895807278
Chosen Option : 3

Q.4
6 भगवान महावीर की शिक्षाओं के संकलन को क्या कहा जाता है?

- Ans
- 1. श्रुति सूत्र
 - 2. पिबि सूत्र
 - 3. अगम सूत्र
 - 4. अवेस्ता सूत्र

Question ID : 9895807300
Chosen Option : 3

Q.4
7 निम्नलिखित में से कौन से देश में दुनिया का सबसे बड़ा कृषि भूमि क्षेत्र है?

- Ans
- 1. रूस
 - 2. चीन
 - 3. भारत
 - 4. संयुक्त राज्य अमेरिका

Question ID : 9895807299
Chosen Option : 3

Q.4
8 भारत और पाकिस्तान द्वारा सर्वोच्च नागरिक सम्मान (भारत रत्न और निशान-ए-पाकिस्तान) पाने वाले एकमात्र भारतीय नेता कौन हैं?

- Ans
- 1. मोरारजी देसाई
 - 2. सरदार वल्लभभाई पटेल
 - 3. महात्मा गांधी
 - 4. जवाहर लाल नेहरू

Question ID : 9895807285
Chosen Option : 1

Q.4
9 सिंधु घाटी चार बड़ी प्राचीन शहरी सभ्यताओं का गृह था। निम्नलिखित में से कौन सा उनमें से एक नहीं है?

- Ans
- 1. दक्षिण एशिया
 - 2. रूस
 - 3. मेसोपोटामिया
 - 4. मिस्र

Question ID : 9895807302
Chosen Option : 4

Q.5
0 सामुदायिक बाजार को निम्नलिखित में से किस संगठन द्वारा विनियमित किया जाता है?

- Ans
- 1. NSE (नेशनल स्टॉक एक्सचेंज)
 - 2. SEBI (भारतीय प्रतिभूति और विनियम बोर्ड)

3. BSE (बाँम्बे स्टॉक एक्सचेंज)

4. RBI (भारतीय रिजर्व बैंक)

Question ID : 9895807288
Chosen Option : 2

Q.5
1 ₹2,000 पर 20% छूट और 10% एवं 10% की 2 क्रमिक छूटों में अंतर होगा:

Ans 1. ₹30

2. ₹0

3. ₹20

4. ₹40

Question ID : 9895807608
Chosen Option : 3

Q.5
2 25 अवलोकनों का माध्य 36 है। इन अवलोकनों में से, यदि पहले 13 अवलोकनों का माध्य 32 है और अंतिम 13 अवलोकनों का माध्य 40 है, तो 13वाँ अवलोकन है:

Ans 1. 23

2. 40

3. 36

4. 38

Question ID : 9895807609
Chosen Option : 4

Q.5
3 वह सबसे छोटी संख्या, जिसे 3857 में जोड़ा जाना चाहिए ताकि योग 5, 6, 4 और 3 से पूर्ण विभाज्य हो:

Ans 1. 17

2. 43

3. 33

4. 3

Question ID : 9895807603
Chosen Option : 1

Q.5
4 A उतने ही समय में एक निश्चित कार्य कर सकता है जितने समय में B और C मिलकर कर सकते हैं। यदि A और B एक साथ इसे 8 दिनों में कर सकते हैं और C अकेले 40 दिनों में कर सकता है, तो B अकेले इसे कितने दिन में कर सकता है?

Ans 1. 15 दिन

2. 30 दिन

3. 20 दिन

4. 25 दिन

Question ID : 9895807618
Chosen Option : 3

Q.5
5 A ने B को 2 वर्षों के लिए ₹6,500 और C को 4 वर्षों के लिए ₹8,000 समान ब्याज दर से साधारण ब्याज पर दिए और उन दोनों से ब्याज के रूप में कुल ₹4,500 प्राप्त किए। प्रति वर्ष ब्याज दर है:

Ans 1. 8%

2. 7%

3. 5%

4. 10%

Question ID : 9895807616

Chosen Option : 2

Q.5
6 सरलीकृत करें:

$$8.4 - [5 + 0.3 \text{ of } (3.3 - 2.6 \times 1.07)]$$

Ans 1. 3.2446

2. 3.2464

3. 3.6244

4. 3.6442

Question ID : 9895807605

Chosen Option : 2

Q.5
7 यदि 50,56 और 44 छात्रों के तीन बैचों के औसत अंक क्रमशः 55,52,40 हैं, तो सभी छात्रों के औसत अंक होंगे:

Ans 1. 49

2. 49.84

3. 50.48

4. 49.48

Question ID : 9895807606

Chosen Option : 3

Q.5
8 दो संख्याएँ 2 : 3 के अनुपात में हैं, यदि पहली से 50 घटाया जाए और दूसरे में 50 जोड़ा जाए, तो अनुपात 1 : 4 हो जाता है। मूल संख्याओं का योग ज्ञात कीजिए।

Ans 1. 400

2. 250

3. 300

4. 100

Question ID : 9895807615

Chosen Option : 2

Q.5
9 एक व्यक्ति 10 km/h की गति से कल्याण से मुंबई जाता है और 15km/h की गति से कल्याण वापस लौटता है। पूरी यात्रा में उसकी औसत गति क्या है?

Ans 1. 42 km/h

2. 12 km/h

3. 56 km/h

4. 15 km/h

Question ID : 9895807621

Chosen Option : 1

Q.6
0 प्रति वर्ष चक्रवृद्धि ब्याज की किस दर से ₹1,800 की राशि दो वर्षों में ₹2178 हो जाएगी?

Ans 1. 13%

2. 10%

3. 11%

4. 12%

Question ID : 9895807617
Chosen Option : 2

Q.6 P, Q और R प्रकार की प्रत्येक वस्तु की कीमत क्रमशः ₹200, ₹300 और ₹400 है। सुरेश ₹2,000 में 1: 2: 3 के अनुपात में प्रत्येक प्रकार की वस्तु खरीदता है। उसने Q प्रकार की कितनी वस्तुएं खरीदी?

Ans 1. 2

2. 5

3. 4

4. 3

Question ID : 9895807614
Chosen Option : 2

Q.6 सैम ने ₹480 प्रति दर्जन की दर से 20 दर्जन खिलौने खरीदे। उसने उनमें से प्रत्येक को ₹42 की दर से बेचा। उसका लाभ प्रतिशत कितना था?

Ans 1. 5.5%

2. 6%

3. 4%

4. 5%

Question ID : 9895807611
Chosen Option : 3

Q.6 जब जया ने गोले के आयतन से गोले के पृष्ठीय क्षेत्रफल को विभाजित किया, तो उसे $\frac{2}{3}$ cm उत्तर मिला। गोले की त्रिज्या क्या है?

Ans 1. 3.5 cm

2. 5.4 cm

3. 4.5 cm

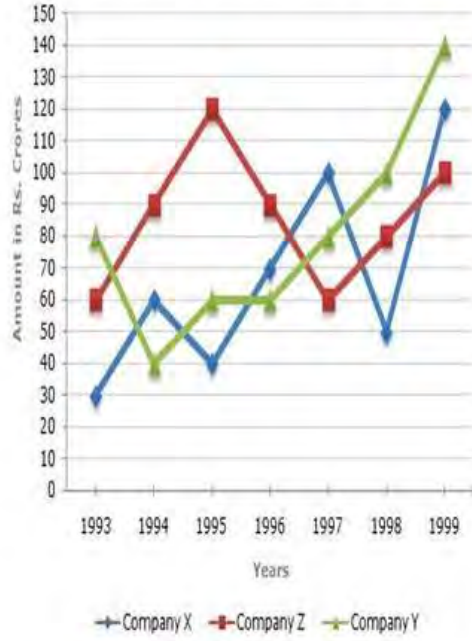
4. 4.6 cm

Question ID : 9895807623
Chosen Option : 4

Q.6
4

निम्नलिखित रेखीय ग्राफ का अध्ययन करें और प्रश्न का उत्तर दें।

वर्षों में तीन कंपनियों से निर्यात (₹ करोड़ में)



निम्नलिखित में से किस वर्ष में, तीनों कंपनियों का निर्यात सबसे अधिक था?

- Ans
- 1. 1998
 - 2. 1995
 - 3. 1996
 - 4. 1999

Question ID : 9895807625
Chosen Option : 2

Q.6 निम्नलिखित रेखीय ग्राफ का अध्ययन करें और प्रश्न का उत्तर दें।

5

वर्षों में तीन कंपनियों से निर्यात (₹ करोड़ में)



तीनों कंपनियों के 1994 में औसत निर्यात और 1995 में औसत र्यात के बीच क्या अंतर था?

- Ans
- 1. ₹30 करोड़
 - 2. ₹20 करोड़

3. ₹5 करोड़
4. ₹10 करोड़

Question ID : 9895807627
Chosen Option : 3

Q.6 अपनी वास्तविक गति के $\frac{3}{8}^{\text{th}}$ पर यात्रा करने वाली एक कार 2 h.10min में 65 km की दूरी तय करती है। कार की वास्तविक गति ज्ञात कीजिए।

- Ans 1. 120 km/h
2. 80 km/h
3. 160 km/h
4. 40 km/h

Question ID : 9895807620
Chosen Option : 1

Q.6 एक कस्बे की आबादी एक दशक में 1,85,000 से बढ़कर 2,77,500 हो गई। प्रति वर्ष जनसंख्या की औसत प्रतिशत वृद्धि कितनी है?

- Ans 1. 6%
2. 4.37%
3. 8.75%
4. 5%

Question ID : 9895807610
Chosen Option : 2

Q.6 राजू और विनोद एक नियतकार्य (असाइनमेंट) पर काम कर रहे हैं। राजू को कंप्यूटर पर 32 पेज टाइप करने में 8h लगते हैं, जबकि विनोद को 44 पेज टाइप करने में 6h लगते हैं। 102 पेजों का असाइनमेंट दो अलग-अलग कंप्यूटरों पर टाइप करने के लिए उन्हें एक साथ काम करने में कितना समय लगेगा?

- Ans 1. 10 h
2. 14 h
3. 12 h
4. 9 h

Question ID : 9895807619
Chosen Option : 4

Q.6 एक आयताकार बॉक्स की मूल चौड़ाई 20 cm है। बॉक्स को इस तरह से बनाया गया था कि इसकी लंबाई 15% बढ़ गई लेकिन चौड़ाई 5% कम हो गई। इसके कारण इसके क्षेत्रफल में 74 cm^2 की वृद्धि हुई। बॉक्स की लंबाई क्या है?

- Ans 1. 20 cm
2. 60 cm
3. 40 cm
4. 30 cm

Question ID : 9895807624
Chosen Option : 2

Q.7 A, B और C का औसत वजन 55 kg है। यदि A और B का औसत वजन 52 kg है और B और C का औसत वजन 48 kg है, तो B का वजन है:

- Ans 1. 30 kg
2. 35 kg

3. 50 kg

4. 32 kg

Question ID : 9895807607

Chosen Option : 4

Q.7
1 सरलीकृत करें:

$$25 - 48 \div 6 + 12 \times 2$$

Ans 1. 41

2. 45

3. 43

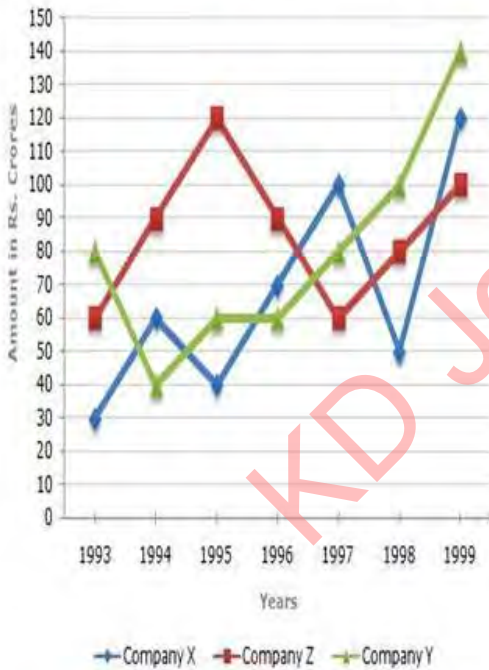
4. 51

Question ID : 9895807604

Chosen Option : 1

Q.7
2 निम्नलिखित रेखीय ग्राफ का अध्ययन करें और प्रश्न का उत्तर दें।

वर्षों में तीन कंपनियों से निर्यात (₹ करोड़ में)



किस वर्ष में कंपनी Y और Z के निर्यात के बीच का अंतर अधिकतम था?

Ans 1. 1997

2. 1994

3. 1996

4. 1995

Question ID : 9895807626

Chosen Option : 2

Q.7 कागज का प्रभार ₹55 प्रति किलोग्राम है। अगर एक किलोग्राम कागज 192m² क्षेत्रफल को कवर करता है तो 8
3 मीटर कोर वाले एक घन को कवर करने में कितना खर्च (₹ में) होगा?

Ans 1. ₹110

2. ₹55 3. ₹165 4. ₹192Question ID : 9895807622
Chosen Option : 3

Q.7 ₹840 में 17 गेंदों को बेचने पर, 5 गेंदों के क्रय मूल्य के बराबर नुकसान होता है एक गेंद का क्रय मूल्य (₹ में) है:

Ans 1. ₹70 2. ₹50 3. ₹60 4. ₹55Question ID : 9895807612
Chosen Option : 4

Q.7 पिता और उसके पुत्र की वर्तमान आयु का अनुपात 4 : 1 है। 5 वर्ष पहले, उनकी आयु 7 : 1 के अनुपात में थी। पुत्र की वर्तमान आयु है:

Ans 1. 10 वर्ष 2. 8 वर्ष 3. 5 वर्ष 4. 3 वर्षQuestion ID : 9895807613
Chosen Option : 3

Section : English Language

Q.1 Select the most appropriate option to substitute the underlined segment in the given sentence. If there is no need to substitute it, select No improvement.

The newly- launched mobile phone application has been a great support for people in remote areas of the country.Ans 1. applications will been a great support 2. applications has been a great support 3. No improvement 4. application have been a great supportQuestion ID : 9895807936
Chosen Option : --

Q.2 From the given options, identify the segment in the sentence which contains the grammatical error.

With the help of skill- based education offer in colleges, many students will become eligible for various jobs.

Ans 1. With the help of 2. many students will become 3. skill- based education offer in 4. eligible for various jobsQuestion ID : 9895807933
Chosen Option : --

Q.3 Select the most appropriate option to substitute the underlined segment in the given sentence. If there is no need to substitute it, select No improvement.

The convict was informed that the judge will heard the case tomorrow.

- Ans
- 1. judge hears a case
 - 2. judge will hear the case
 - 3. judge will hearing a case
 - 4. No improvement

Question ID : 9895807934

Chosen Option : --

Q.4 From the given options, identify the segment in the sentence which contains the grammatical error.

It makes us realise how unsuitable our education system are because it cannot help us deal with life's most basic issues.

- Ans
- 1. It makes us realise
 - 2. education system are
 - 3. life's most basic issues
 - 4. it cannot help us

Question ID : 9895807931

Chosen Option : --

Q.5 Select the most appropriate word to fill in the blank.

If you have a _____ for photography, you do not have to wait for your big break.

- Ans
- 1. claim
 - 2. passion
 - 3. response
 - 4. demand

Question ID : 9895807956

Chosen Option : --

Q.6 Select the word which means the same as the group of words given.

A place in a large institution for the care of those who are ill.

- Ans
- 1. Camp
 - 2. Shelter
 - 3. Infirmary
 - 4. Clinic

Question ID : 9895807951

Chosen Option : --

Q.7 Select the option that means the same as the given idiom.

To turn over a new leaf

Ans

1. To be always careful about one's behaviour
2. To change one's behavior for better
3. To make new things happen
4. To turn over the page of a book

Question ID : 9895807950
Chosen Option : --

Q.8 Select the synonym of the given word.

BOUNTIFUL

- Ans 1. Pretty
2. Religious
3. Spiritual
4. Generous

Question ID : 9895807945
Chosen Option : --

Q.9 Select the most appropriate option to fill in the blank.

Researchers say that about 33 % of people with diabetes may _____ a skin disorder in their lifetime.

- Ans 1. have been
2. has been
3. have
4. has

Question ID : 9895807938
Chosen Option : --

Q.1 From the given options, identify the segment in the sentence which contains the grammatical error.

0

Computers everywhere use random numbers as keys to locked or unlock encrypted information.

- Ans 1. use random numbers as
2. keys to locked or unlock
3. encrypted information
4. Computers everywhere

Question ID : 9895807932
Chosen Option : --

Q.1 Select the correctly spelt word.

1

- Ans 1. Knowlege
2. Knowledge
3. Knoledge
4. Knowledg

Question ID : 9895807954

Chosen Option : --

Q.1
2 Select the antonym of the given word.

ASSAULT

- Ans
- 1. Defend
 - 2. Offend
 - 3. Strike
 - 4. Agree

Question ID : 9895807948
Chosen Option : --

Comprehension:

In the following passage some words have been deleted.

Fill in the blanks with the help of the alternatives given.

Man is a 'social animal'. Hence, showing a (1) _____ behaviour is equivalent to showing an animal behaviour. Psychologists (2) _____ that though violent behaviour is inherent but it can be managed. Providing a healthy and cordial home environment to kids help them to build strong family values and reduce the (3) _____ to react violently. Rehabilitation homes and support programs are available for those (4) _____ need professional help. Meditation and practicing yoga also helps to (5) _____ negative attitude towards self and others.

SubQuestion No : 13

Q.1
3 Select the most appropriate option that will fill in the blank number 1.

- Ans
- 1. vicious
 - 2. ambitious
 - 3. helpful
 - 4. submissive

Question ID : 9895807940
Chosen Option : --

Comprehension:

In the following passage some words have been deleted.

Fill in the blanks with the help of the alternatives given.

Man is a 'social animal'. Hence, showing a (1) _____
behaviour is equivalent to showing an animal behaviour.
Psychologists (2) _____ that though violent behaviour
is inherent but it can be managed. Providing a healthy and
cordial home environment to kids help them to build
strong family values and reduce the (3) _____ to react
violently. Rehabilitation homes and support programs are
available for those (4) _____ need professional help.
Meditation and practicing yoga also helps to (5) _____
negative attitude towards self and others.

SubQuestion No : 14

Q.1
4 Select the most appropriate option that will fill in the
blank number 2.

- Ans
- 1. say
 - 2. says
 - 3. speak
 - 4. saying

Question ID : 9895807941
Chosen Option : --

Comprehension:

In the following passage some words have been deleted.

Fill in the blanks with the help of the alternatives given.

Man is a 'social animal'. Hence, showing a (1) _____
behaviour is equivalent to showing an animal behaviour.
Psychologists (2) _____ that though violent behaviour
is inherent but it can be managed. Providing a healthy and
cordial home environment to kids help them to build
strong family values and reduce the (3) _____ to react
violently. Rehabilitation homes and support programs are
available for those (4) _____ need professional help.
Meditation and practicing yoga also helps to (5) _____
negative attitude towards self and others.

SubQuestion No : 15

Q.1

5 Select the most appropriate option that will fill in the blank number 3.

- Ans 1. tendency
 2. choice
 3. aim
 4. preference

Question ID : 9895807942
Chosen Option : --

Comprehension:

In the following passage some words have been deleted.
Fill in the blanks with the help of the alternatives given.

Man is a 'social animal'. Hence, showing a (1) _____ behaviour is equivalent to showing an animal behaviour. Psychologists (2) _____ that though violent behaviour is inherent but it can be managed. Providing a healthy and cordial home environment to kids help them to build strong family values and reduce the (3) _____ to react violently. Rehabilitation homes and support programs are available for those (4) _____ need professional help. Meditation and practicing yoga also helps to (5) _____ negative attitude towards self and others.

SubQuestion No : 16

Q.1
6 Select the most appropriate option that will fill in the blank number 4.

- Ans 1. whose
 2. who
 3. when
 4. whom

Question ID : 9895807943
Chosen Option : --

Comprehension:

In the following passage some words have been deleted.

Fill in the blanks with the help of the alternatives given.

Man is a 'social animal'. Hence, showing a (1) _____
behaviour is equivalent to showing an animal behaviour.
Psychologists (2) _____ that though violent behaviour
is inherent but it can be managed. Providing a healthy and
cordial home environment to kids help them to build
strong family values and reduce the (3) _____ to react
violently. Rehabilitation homes and support programs are
available for those (4) _____ need professional help.
Meditation and practicing yoga also helps to (5) _____
negative attitude towards self and others.

SubQuestion No : 17

Q.1
7 Select the most appropriate option that will fill in the
blank number 5.

- Ans
- 1. deal
 - 2. rectify
 - 3. unsettle
 - 4. increase

Question ID : 9895807944
Chosen Option : --

Q.1
8 Select the option that means the same as the given idiom.

To bury the hatchet

- Ans
- 1. To bury old utensils
 - 2. To bury an axe
 - 3. To make someone happy
 - 4. To make peace

Question ID : 9895807949
Chosen Option : --

Q.1
9 Select the antonym of the given word.

INDOLENT

- Ans
- 1. Lively
 - 2. Sluggish
 - 3. Inert
 - 4. Lifeless

Question ID : 9895807947

Chosen Option : --

Q.2
0 Select the correctly spelt word.

- Ans
- 1. Infrastructure
 - 2. Infrastructure
 - 3. Imfrastructure
 - 4. Infrastructur

Question ID : 9895807953

Chosen Option : --

Q.2
1 Select the word which means the same as the group of words given.

A close fitting cover for the blade of a knife or sword.

- Ans
- 1. Sheath
 - 2. Mask
 - 3. Pouch
 - 4. Packet

Question ID : 9895807952

Chosen Option : --

Q.2
2 Select the most appropriate word to fill in the blank.

The complexity of the current environment includes many challenges in general, but air pollution in _____.

- Ans
- 1. public
 - 2. common
 - 3. overall
 - 4. particular

Question ID : 9895807955

Chosen Option : --

Q.2
3 Select the synonym of the given word.

ELAPSED

- Ans
- 1. Persuaded
 - 2. Ceased
 - 3. Prolonged
 - 4. Connected

Question ID : 9895807946

Chosen Option : --

Q.2
4 Select the most appropriate option to substitute the underlined segment in the given sentence. If there is no need to substitute it, select No improvement.He is felt extremely unhappy yesterday because of the inordinate delay of the messenger.

- Ans
- 1. No improvement

2. He has feeling extremely unhappy yesterday
3. He have been feeling extremely unhappy yesterday
4. He was feeling extremely unhappy yesterday

Question ID : 9895807935
Chosen Option : --

Q.2
5 Select the most appropriate option to fill in the blank.

A toddler's brain _____ pretty much fully developed by the age of three.

- Ans 1. was
2. are
3. were
4. is

Question ID : 9895807937
Chosen Option : --

Section : Hindi Language

Q.1 दिए गए वाक्य में रेखांकित खंड को प्रतिस्थापित करने के लिए उपयुक्त विकल्प का चयन करें।

हमारा ईश्वर में विश्वास है।

- Ans 1. शंकर
2. भगवान
3. विष्णु
4. कृष्ण

Question ID : 9895806714
Chosen Option : 2

Q.2 दिए गए वाक्य का वह भाग ज्ञात करें जिसमें कोई त्रुटि है।

पक्षियों की दुनिया कितना स्वच्छंद होती है।

- Ans 1. दुनिया
2. कितना स्वच्छंद
3. पक्षियों की
4. होती है।

Question ID : 9895806709
Chosen Option : 3

Comprehension:

निम्नलिखित गद्यांश के रिक्त स्थानों की पूर्ति गद्यांश के नीचे दिए गए प्रश्नों के अनुसार कीजिए-

हमारा सौभाग्य है कि समय-समय पर हमारे देश में ऐसे अनेक ऋषि, महर्षि, विद्वान, संत और महात्मा पैदा हुए जिन्होंने विघटन, विरोध और _____ (1) की वृत्ति के खतरे को पहचाना और उन्हें समाप्त करने में अपनी पूर्ण _____ (2) लगा दी। कबीर और गांधी इसी प्रकार के व्यक्ति थे। उन्होंने एकता और सहिष्णुता की जो धारा बहायी, वह अभी तक _____ (3) नहीं हुई। आज भी हमारे देश में सौभाग्य से ऐसे नेता, विचारक और समाजसेवी _____ (4) हैं जो इस खतरे के विरुद्ध अपनी आवाज बुलंद करते रहते हैं और समय आने पर अपने _____ (5) की बाजी लगाने के लिए तैयार हो जाते हैं।

SubQuestion No : 3

Q.3 गद्यांश में संकेतित रिक्त स्थान (1) के लिए उपयुक्त शब्द होगा।

- Ans
- 1. असंतुष्ट
 - 2. लगाव
 - 3. चुनाव
 - 4. अलगाव

Question ID : 9895806720
Chosen Option : 4

Comprehension:

निम्नलिखित गद्यांश के रिक्त स्थानों की पूर्ति गद्यांश के नीचे दिए गए प्रश्नों के अनुसार कीजिए-

हमारा सौभाग्य है कि समय-समय पर हमारे देश में ऐसे अनेक ऋषि, महर्षि, विद्वान, संत और महात्मा पैदा हुए जिन्होंने विघटन, विरोध और _____ (1) की वृत्ति के खतरे को पहचाना और उन्हें समाप्त करने में अपनी पूर्ण _____ (2) लगा दी। कबीर और गांधी इसी प्रकार के व्यक्ति थे। उन्होंने एकता और सहिष्णुता की जो धारा बहायी, वह अभी तक _____ (3) नहीं हुई। आज भी हमारे देश में सौभाग्य से ऐसे नेता, विचारक और समाजसेवी _____ (4) हैं जो इस खतरे के विरुद्ध अपनी आवाज बुलंद करते रहते हैं और समय आने पर अपने _____ (5) की बाजी लगाने के लिए तैयार हो जाते हैं।

SubQuestion No : 4

Q.4

गद्यांश में संकेतित रिक्त स्थान (2) के लिए
उपयुक्त शब्द होगा।

- Ans
- 1. स्वतंत्रता
 - 2. इच्छा
 - 3. महत्वकांक्षा
 - 4. शक्ति

Question ID : 9895806721
Chosen Option : 4

Comprehension:

निम्नलिखित गद्यांश के रिक्त स्थानों की पूर्ति गद्यांश के नीचे दिए गए प्रश्नों के अनुसार कीजिए-

हमारा सौभाग्य है कि समय-समय पर हमारे देश में ऐसे अनेक ऋषि, महर्षि, विद्वान, संत और महात्मा पैदा हुए जिन्होंने विघटन, विरोध और _____ (1) की वृत्ति के खतरे को पहचाना और उन्हें समाप्त करने में अपनी पूर्ण _____ (2) लगा दी। कबीर और गांधी इसी प्रकार के व्यक्ति थे। उन्होंने एकता और सहिष्णुता की जो धारा बहायी, वह अभी तक _____ (3) नहीं हुई। आज भी हमारे देश में सौभाग्य से ऐसे नेता, विचारक और समाजसेवी _____ (4) हैं जो इस खतरे के विरुद्ध अपनी आवाज बुलंद करते रहते हैं और समय आने पर अपने _____ (5) की बाजी लगाने के लिए तैयार हो जाते हैं।

SubQuestion No : 5

Q.5 गद्यांश में संकेतित रिक्त स्थान (3) के लिए
उपयुक्त शब्द होगा।

- Ans
- 1. बड़ी
 - 2. क्षीण
 - 3. अधिक
 - 4. दीर्घ

Question ID : 9895806722
Chosen Option : 2

Comprehension:

निम्नलिखित गद्यांश के रिक्त स्थानों की पूर्ति गद्यांश के नीचे दिए गए प्रश्नों के अनुसार कीजिए-

हमारा सौभाग्य है कि समय-समय पर हमारे देश में ऐसे अनेक ऋषि, महर्षि, विद्वान, संत और महात्मा पैदा हुए जिन्होंने विघटन, विरोध और _____ (1) की वृत्ति के खतरे को पहचाना और उन्हें समाप्त करने में अपनी पूर्ण _____ (2) लगा दी। कबीर और गांधी इसी प्रकार के व्यक्ति थे। उन्होंने एकता और सहिष्णुता की जो धारा बहायी, वह अभी तक _____ (3) नहीं हुई। आज भी हमारे देश में सौभाग्य से ऐसे नेता, विचारक और समाजसेवी _____ (4) हैं जो इस खतरे के विरुद्ध अपनी आवाज बुलंद करते रहते हैं और समय आने पर अपने _____ (5) की बाजी लगाने के लिए तैयार हो जाते हैं।

SubQuestion No : 6

Q.6 गद्यांश में संकेतित रिक्त स्थान (4) के लिए उपयुक्त शब्द होगा।

- Ans
- 1. लुप्त
 - 2. विलीन
 - 3. वर्तमान
 - 4. मौजूद

Question ID : 9895806723
Chosen Option : 4

Comprehension:

निम्नलिखित गद्यांश के रिक्त स्थानों की पूर्ति गद्यांश के नीचे दिए गए प्रश्नों के अनुसार कीजिए-

हमारा सौभाग्य है कि समय-समय पर हमारे देश में ऐसे अनेक ऋषि, महर्षि, विद्वान, संत और महात्मा पैदा हुए जिन्होंने विघटन, विरोध और _____ (1) की वृत्ति के खतरे को पहचाना और उन्हें समाप्त करने में अपनी पूर्ण _____ (2) लगा दी। कबीर और गांधी इसी प्रकार के व्यक्ति थे। उन्होंने एकता और सहिष्णुता की जो धारा बहायी, वह अभी तक _____ (3) नहीं हुई। आज भी हमारे देश में सौभाग्य से ऐसे नेता, विचारक और समाजसेवी _____ (4) हैं जो इस खतरे के विरुद्ध अपनी आवाज बुलंद करते रहते हैं और समय आने पर अपने _____ (5) की बाजी लगाने के लिए तैयार हो जाते हैं।

SubQuestion No : 7

Q.7

गद्यांश में संकेतित रिक्त स्थान (5) के लिए
उपयुक्त शब्द होगा।

- Ans
- 1. मन
 - 2. प्राण
 - 3. इच्छा
 - 4. दिल

Question ID : 9895806724
Chosen Option : 2

Q.8 रिक्त स्थान को भरने के लिए उपयुक्त शब्द का चयन करें।

अनाज _____ में उगता है।

- Ans
- 1. खेतों
 - 2. जहाजों
 - 3. सड़कों
 - 4. मैदानों

Question ID : 9895806715
Chosen Option : 1

Q.9 निम्नलिखित में से उस विकल्प का चयन करें जो 'लोहे के चने चबाना' मुहावरे का अर्थ व्यक्त करता है।

- Ans
- 1. लोहे से निर्मित चने खाना
 - 2. सरल कार्य करना
 - 3. बहुत कठिन कार्य करना
 - 4. अच्छा कार्य करना

Question ID : 9895806730
Chosen Option : 3

Q.1 0 दिए गए शब्द के पर्यायवाची शब्द का चयन करें।

ग्रह

- Ans
- 1. घर
 - 2. कर्म
 - 3. नक्षत्र
 - 4. आग्रह

Question ID : 9895806728
Chosen Option : 1

Q.1 1 दिए गए वाक्य में रेखांकित खंड को प्रतिस्थापित करने के लिए उपयुक्त विकल्प का चयन करें।

सब आदमी समान नहीं होते।

- Ans 1. मनुष्य बराबर
 2. हर मानव
 3. लोक
 4. प्रत्येक व्यक्ति

Question ID : 9895806713
 Chosen Option : 1

Q.1 2 दिए गए वाक्य में रेखांकित खंड को प्रतिस्थापित करने के लिए उपयुक्त विकल्प का चयन करें।

मोहन अपने काम में प्रवीण है।

- Ans 1. पूर्ण
 2. दक्ष
 3. चालाक
 4. शातिर

Question ID : 9895806712
 Chosen Option : 3

Q.1 3 रिक्त स्थान को भरने के लिए उपयुक्त शब्द का चयन करें।

रीमा ने _____ से फल काटे।

- Ans 1. तलवार
 2. कुल्हाड़ी
 3. चाकू
 4. कैंची

Question ID : 9895806718
 Chosen Option : 3

Q.1 4 दिये गये वाक्यांश के लिए एक शब्द दीजिये।

जिसकी आयु कम हो

- Ans 1. चिरंजीवी
 2. दीर्घायु
 3. अल्पायु
 4. शतायु

Question ID : 9895806731
 Chosen Option : 1

Q.1
 5

दिए गए शब्द के पर्यायवाची शब्द का चयन करें।

आवाज़

- Ans
- 1. नगाड़ा
 - 2. ध्वनि
 - 3. अनादर
 - 4. नंदिनी

Question ID : 9895806727
Chosen Option : 2

Q.1
6 दिए गए शब्द का विलोम चुनें।

सत्कार

- Ans
- 1. पुरस्कार
 - 2. बेकार
 - 3. तिरस्कार
 - 4. सम्मान

Question ID : 9895806726
Chosen Option : 4

Q.1
7 दिए गए शब्द का विलोम चुनें।

कृत्रिम

- Ans
- 1. कृमि
 - 2. प्राकृतिक
 - 3. बनावटी
 - 4. कृति

Question ID : 9895806725
Chosen Option : 2

Q.1
8 दिए गए वाक्य का वह भाग ज्ञात करें जिसमें कोई त्रुटि है।

शिरीष के विशाल वृक्ष बड़ी छायादार होते हैं।

- Ans
- 1. शिरीष के
 - 2. होते हैं।
 - 3. विशाल वृक्ष
 - 4. बड़ी छायादार

Question ID : 9895806711
Chosen Option : 4

Q.1 रिक्त स्थान को भरने के लिए सबसे उपयुक्त शब्द का चयन करें।

बोटल में पानी _____ भरा है।

- Ans
- 1. को साथ
 - 2. के बारे में
 - 3. आधा
 - 4. के बदले

Question ID : 9895806716
Chosen Option : 3

Q.2 दिए गए वाक्य का वह भाग ज्ञात करें जिसमें कोई त्रुटि है।

आकर्षण का केंद्र यह माण्डवगढ़ शाही महलों की खण्डहर है।

- Ans
- 1. यह माण्डवगढ़
 - 2. खण्डहर है।
 - 3. शाही महलों की
 - 4. आकर्षण का केंद्र

Question ID : 9895806710
Chosen Option : 1

Q.2 रिक्त स्थान को भरने के लिए उपयुक्त शब्द का चयन करें।

वह चला गया था _____ रास्ते से लौट आया।

- Ans
- 1. यदि
 - 2. वह
 - 3. तो
 - 4. परंतु

Question ID : 9895806717
Chosen Option : 4

Q.2 सही वर्तनी वाले शब्द का चयन करें।

- Ans
- 1. क्षुदा
 - 2. क्षुधा
 - 3. क्षूदा
 - 4. क्षूधा

Question ID : 9895806733

Chosen Option : 4

Q.2 निम्नलिखित में से उस विकल्प का चयन करें जो 'रूह काँपना' मुहावरे का अर्थ व्यक्त करता है।

Ans

1. बहुत निडर
 2. बहुत डरना
 3. बहुत काँपना
 4. बहुत सदी लगना

Question ID : 9895806729

Chosen Option : 2

Q.2 4 दिये गये वाक्यांश के लिए एक शब्द दीजिये।

राजनीति से संबंधित

Ans

1. राजनैतिक
 2. नैतिक
 3. सैद्धांतिक
 4. अनैतिक

Question ID : 9895806732

Chosen Option : 1

Q.2 5 सही वर्तनी वाले शब्द का चयन करें।

Ans

1. बिछोना
 2. विछौना
 3. बिछौना
 4. बीछौना

Question ID : 9895806734

Chosen Option : 1

Constable (GD) in CAPFs, NIA, SSF and Rifleman (GD) in Assam Rifles Examination, 2018

Roll No. :	
Registration No.	
Name :	
Exam Venue :	
Exam Time :	12:30 PM - 2:00 PM
Exam Date :	02/03/2019

Section : General Section

Q.1 दिए गए विकल्पों में से लुप्त संख्या ज्ञात करें।


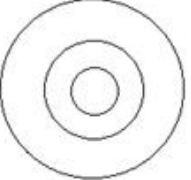
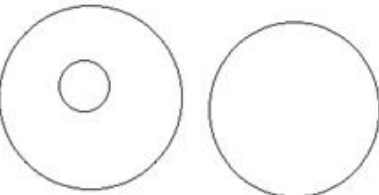
36	13	31
28	10	24
18	23	?

- Ans
1. 36
2. 32
3. 20
4. 27

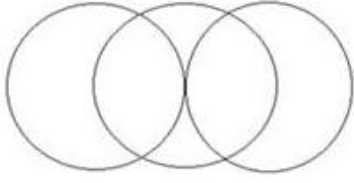
Question ID : 9895808256
Chosen Option : 1

Q.2 उस वेन आरेख का चयन करें जो दिए गए वर्गों के बीच संबंधों को बेहतर ढंग से दर्शाता है।
काठमांडू, नेपाल, भारत

Ans

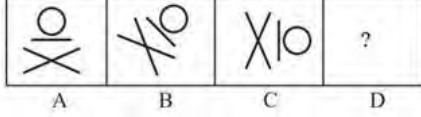
1. 
2. 
3. 

4.



Question ID : 9895808263
Chosen Option : 1

Q.3 कौन सा विकल्प प्रश्न चिह्न के स्थान पर आएगा और दी गई श्रृंखला को पूरा करेगा?



Ans

1.



2.



3.



4.



Question ID : 9895808258
Chosen Option : 4

Q.4 उस विकल्प का चयन करें जो तीसरे पद से उसी प्रकार संबंधित है जिस प्रकार दूसरा पद पहले पद से संबंधित है।

जाना : प्रस्थान करना :: खर्च करना : ?

Ans

1. गया

2. बचाना

3. बनाना

4. उपयोग करना

Question ID : 9895808242
Chosen Option : 4

Q.5 दी गई श्रृंखला में अगली संख्या ज्ञात करें।

12, 21, 30, 39, ?

Ans

1. 50

2. 41

✓ 3. 48

✗ 4. 44

Question ID : 9895808252

Chosen Option : 3

Q.6 उस विकल्प का चयन करें जो प्रश्न चिह्न के स्थान पर आएगा और दिए गए पैटर्न को पूरा करेगा।



Ans



Question ID : 9895808259

Chosen Option : 2

Q.7 उस विकल्प का चयन करें जो दर्पण के दायीं ओर रखे जाने पर दिए गए शब्द की दर्पण छवि से सर्वाधिक मेल खाता है।

TOLERANT

Ans

✓ 1. TOLERNAT

✗ 2. TOLERNIT

✗ 3. TOLERNIT

✗ 4. TOLERNIT

Question ID : 9895808261

Chosen Option : 1

Q.8 उस विकल्प का चयन करें जो तीसरे पद से उसी प्रकार संबंधित है जिस प्रकार दूसरा पद पहले पद से संबंधित है।

BCD : DFH :: JKL : ?

Ans

✗ 1. MNO

✓ 2. LNP

✗ 3. LMP

✗ 4. NLP

Question ID : 9895808244

Chosen Option : 1

Q.9 केवल एक रनवे है जो बारी - बारी से सात उड़ानों द्वारा उपयोग किया जाएगा। P और Q रनवे का उपयोग न तो पहले करेंगे और न ही अंत में। S, R के बाद इसका दूसरा उपयोग करेगा। M, O के पहले इसका दूसरा उपयोग करेगा। N, O के बाद और R के पहले इसका उपयोग करेगा। Q, R के ठीक पहले उपयोग करेगा। Q से ठीक पहले रनवे का उपयोग कौन करेगा?

Ans

✗ 1. S

2. R

3. O

4. P

Question ID : 9895808249

Chosen Option : 2

Q.1 नीचे दिए गए कथनों के बाद दो । और ॥ दिए गए हैं। आपको कथनों में डी गई जानकारी को सत्य मानना है, भले ही वह सबे ज्ञात तथ्यों से भिन्न प्रतीत होती हो और यह तय करना है कि कौन सा/से निष्कर्ष तार्किक रूप से और निश्चित रूप से कथनों का अनुसरण करता है/करते हैं।

कथन:

सभी कहानियां उपन्यास हैं।

सभी कहानियां कविताएँ हैं।

निष्कर्ष:

I. कोई भी कहाननी उपन्यास नहीं हैं।

II. कुछ कविताएँ कहानियां हैं।

Ans

1. केवल निष्कर्ष I अनुसरण करता है।

2. दोनों निष्कर्ष अनुसरण करते हैं।

3. या तो निष्कर्ष I या निष्कर्ष II अनुसरण करता है।

4. केवल निष्कर्ष II करता है।

Question ID : 9895808250

Chosen Option : 3

Q.1 यदि किसी कूट भाषा में PINK को OHMJ के रूप में लिखा जाता है, तो उसी कूट भाषा में BLUE को कैसे लिखेंगे?

1

Ans

1. DATK

2. KTDA

3. AKTD

4. TKDA

Question ID : 9895808245

Chosen Option : 1

Q.1 एक पैटर्न के साथ एक चौकोर पारदर्शी कागज पत्रक दिया गया है। जब पारदर्शी कागज पत्रक को बिंदुंकित रेखा पर मोड़ा जाता है तो पैटर्न कैसे दिखाई देगा?

2



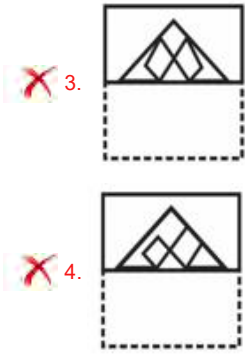
Ans

1.



2.





Question ID : 9895808262
Chosen Option : 2

Q.1 यदि '+' का अर्थ 'जोड़' है, '-' का अर्थ 'घटाव' है, '-' का अर्थ 'गुणा' है और 'x' का अर्थ 'विभाजन' है तो निम्नलिखित समीकरण का मान क्या होगा?

$$75 \times 5 - 4 + 7 + 2 = ?$$

- Ans
- 1. 69
 - 2. 65
 - 3. 72
 - 4. 67

Question ID : 9895808257
Chosen Option : 1

Q.1 यदि किसी कूट भाषा में CUBA को 27 के रूप में लिखा जाता है, तो उसी कूट भाषा में FIJ को कैसे लिखेंगे?

- Ans
- 1. 30
 - 2. 34
 - 3. 27
 - 4. 38

Question ID : 9895808246
Chosen Option : 1

Q.1 नीचे दिए गए कथनों के बाद दो I और II दिए गए हैं। आपको कथनों में डी गई जानकारी को सत्य मानना है, भले ही वह सर्वे ज्ञात तथ्यों से भिन्न प्रतीत होती हो और यह तय करना है कि कौन सा/से निष्कर्ष तार्किक रूप से और निश्चित रूप से कथनों का अनुसरण करता है/करते हैं।

कथन:
कुछ पीड़ित जज हैं।
कुछ जज डकैत हैं।

निष्कर्ष:
I. कुछ पीड़ित डकैत हैं।
II. कोई पीड़ित डकैत नहीं है।

- Ans
- 1. केवल निष्कर्ष II करता है।
 - 2. दोनों निष्कर्ष अनुसरण करते हैं।
 - 3. या तो निष्कर्ष I या निष्कर्ष II अनुसरण करता है।
 - 4. केवल निष्कर्ष I अनुसरण करता है।

Question ID : 9895808251

Chosen Option : 3

Q.1
6 दिए गए अक्षर समूह श्रृंखला में अक्षरों की कौन सी जोड़ी आगे आएगी?

ZX, WU, TR, QO, ?

- Ans
- 1. NL
 - 2. PR
 - 3. ML
 - 4. NK

Question ID : 9895808239
Chosen Option : 2

Q.1
7 उस विकल्प का चयन करें जो तीसरे पद से उसी प्रकार संबंधित है जिस प्रकार दूसरा पद पहले पद से संबंधित है।

4 : 19 :: 6 : ?

- Ans
- 1. 30
 - 2. 24
 - 3. 36
 - 4. 39

Question ID : 9895808254
Chosen Option : 1

Q.1
8 कुछ छात्र एक पंक्ति में बैठे हैं। रविश बाएँ छोर से पंक्ति में छठा छात्र है। वैभव पंक्ति के दाएँ छोर से 10वें स्थान पर बैठा है। उस पंक्ति में रविश और वैभव के बीच 8 लड़के बैठे हैं। कुल कितने लड़के पंक्ति में बैठे हैं?

- Ans
- 1. 27
 - 2. 24
 - 3. 20
 - 4. 32

Question ID : 9895808248
Chosen Option : 3

Q.1
9 दिए गए विकल्पों में से असंगत की पहचान करें।

- Ans
- 1. कार्बन
 - 2. ऑरम
 - 3. सिलिकॉन
 - 4. जर्मैनियम

Question ID : 9895808241
Chosen Option : 2

Q.2
0 निम्नलिखित में से असंगत को पहचानें।

- Ans
- 1. 432
 - 2. 516
 - 3. 261
 - 4. 333

Question ID : 9895808255
Chosen Option : 3

Q.2 विकल्पों में से उस आकृति की पहचान करें जिसमें दी गई आकृति अंतर्निहित है।



Ans

- 1.
- 2.
- 3.
- 4.

Question ID : 9895808260
Chosen Option : 2

Q.2 दी गई श्रृंखला में अगली संख्या ज्ञात करें।

3, 14, 33, 60, ?

- Ans 1. 97
2. 99
3. 95
4. 92

Question ID : 9895808253
Chosen Option : 2

Q.2 उस विकल्प का चयन करें जो तीसरे पद से उसी प्रकार संबंधित है जिस प्रकार दूसरा पद पहले पद से संबंधित है।

दर्जी : कपड़ा :: मैकेनिक : ?

- Ans 1. मरम्मत
2. बिजली
3. मशीन
4. औजार

Question ID : 9895808243
Chosen Option : 2

Q.2 निम्नलिखित में से असंगत की पहचान करें।

- Ans 1. ACNP
2. DFQS

3. JKXY

4. GITV

Question ID : 9895808240

Chosen Option : 2

Q.2 5 आठ दोस्त P, Q, R, S, T, U, V और W मेज के केंद्र की ओर मुँह करके उसके चारों ओर बैठे हैं। P, T की बगल में नहीं बैठा है, जबकि R, Q के दाएँ ओर तीसरे स्थान पर बैठा है। W, T के बाएँ से दूसरे स्थान पर है जो R के दाएँ ओर बैठा है। U, T या Q की बगल में नहीं बैठा है, बल्कि वह V के बिल्कुल बाएँ ओर बैठा है। Q के बिल्कुल दाएँ ओर कौन बैठा है?

Ans 1. P

2. S

3. T

4. R

Question ID : 9895808247

Chosen Option : 2

Q.2 6 यदि मौद्रिक नीति व्याज दरों के प्रबंधन और धन की आपूर्ति से संबंधित है, तो राजकोषीय नीति किससे संबंधित है?

Ans 1. बैंकिंग

2. कराधान और सरकारी खर्च

3. विदेशी व्यापार

4. आयात और निर्यात

Question ID : 9895807311

Chosen Option : 4

Q.2 7 किस अमेरिकी पत्रकार ने धरसाणा में नमक सत्याग्रह विरोध प्रदर्शन को कवर किया?

Ans 1. एडवर्ड मुरो

2. कार्ल बर्नस्टीन

3. वाल्टर लेलैंड क्रोनकाइट

4. वेब मिलर

Question ID : 9895807327

Chosen Option : 1

Q.2 8 समाज के गरीब वर्ग में बाजार मूल्य से कम मूल्य पर खाद्यान्न वितरित करने के लिए बफर स्टॉक बनाया जाता है, उस दाम को _____ भी कहते हैं।

Ans 1. कम किया गया मूल्य

2. उचित मूल्य

3. जारी मूल्य

4. क्रय मूल्य

Question ID : 9895807312

Chosen Option : 1

Q.2

9 पारंपरिक त्योहार 'पावल कुट' भारत के किस राज्य से संबंधित है?

- Ans
- 1. सिक्किम
 - 2. मिजोरम
 - 3. मेघालय
 - 4. गोवा

Question ID : 9895807304
Chosen Option : 4

Q.3
0 निम्नलिखित में से कौन धानी प्राणी (मारसुपियल) का उदाहरण है?

- Ans
- 1. कंगारू
 - 2. कछुआ
 - 3. जेब्रा
 - 4. सियार

Question ID : 9895807319
Chosen Option : 2

Q.3
1 निम्नलिखित में से कौन सी पर्वत श्रृंखला भारत, पाकिस्तान और चीन तक फैली हुई है?

- Ans
- 1. अरावली
 - 2. काराकोरम
 - 3. नीलगिरि
 - 4. सतपुड़ा

Question ID : 9895807323
Chosen Option : 1

Q.3
2 मराठा साम्राज्य के संस्थापक राजा शिवाजी को किस स्थान पर 'छत्रपति' के खिताब से सम्मानित किया गया था?

- Ans
- 1. सतारा
 - 2. रायगढ़
 - 3. पुणे
 - 4. गिंगी

Question ID : 9895807326
Chosen Option : 2

Q.3
3 उस उपकरण का नाम बताइए जो एक चालक में संभावित अंतर बनाए रखने में मदद करता है?

- Ans
- 1. शक्ति नापने का यंत्र (डायनेमोमीटर)
 - 2. युडियमीटर
 - 3. कैलिपर
 - 4. बैटरी

Question ID : 9895807318

Chosen Option : 4

Q.3
4 भारत द्वारा सरकार की संसदीय प्रणाली किस राष्ट्र के संविधान के आधार पर अपनाई गई थी?

Ans

- 1. यूनाइटेड किंगडम
- 2. संयुक्त राज्य अमरीका
- 3. रूस
- 4. आयरलैंड

Question ID : 9895807314

Chosen Option : 2

Q.3
5 लोकतंत्रों के संदर्भ में, निम्नलिखित अवधारणाओं में से एक सही है, जिसे लोकतंत्रों ने सफलतापूर्वक समाप्त कर दिया है।

Ans

- 1. इसके लोगों के बीच संघर्ष
- 2. राजनीतिक असमानता का विचार
- 3.

हाशिये के वर्गों के साथ कैसा व्यवहार किया जाता है उस पर मतभेद

- 4. लोगों में आर्थिक असमानता

Question ID : 9895807316

Chosen Option : 4

Q.3
6 या तो सतह या सतह के नीचे से पानी की छोटी मात्रा पौधों की जड़ों तक पहुँचने की प्रक्रिया को क्या कहते हैं?

Ans

- 1. ट्रिप्स सिंचाई (ड्रिप इरिगेशन)
- 2. मैनुअल सिंचाई
- 3. पार्श्व सिंचाई (लेटरल मूव इरिगेशन)
- 4. स्थानीयकृत सिंचाई (लोकलाइज्ड इरिगेशन)

Question ID : 9895807324

Chosen Option : 2

Q.3
7 5 वीं शताब्दी ईसा पूर्व में लिखा गया 'पाली कैनन', किस धर्म का मूलग्रन्थ है?

Ans

- 1. ताओ धर्म
- 2. पारसी धर्म
- 3. जैन धर्म
- 4. बौद्ध धर्म

Question ID : 9895807325

Chosen Option : 4

Q.3
8 लोक नृत्य 'घुमरा' किस भारतीय राज्य से संबंधित है?

Ans

- 1. झारखंड
- 2. पश्चिम बंगाल

3. असम
4. ओडिशा

Question ID : 9895807303
Chosen Option : 1

Q.3
9 'बाराबती किला' भारत के किस राज्य में स्थित है?

- Ans 1. मध्य प्रदेश
2. ओडिशा
3. पश्चिम बंगाल
4. महाराष्ट्र

Question ID : 9895807305
Chosen Option : 1

Q.4
0 गति का कौन सा नियम कहता है, कि जब एक पदार्थ दूसरे पदार्थ पर जोर लगाता है तो दूसरा पदार्थ तुरंत पहले पर वापस बल लगाता है?

- Ans 1. न्यूटन का गति का तीसरा नियम
2. स्टीफन का नियम
3. कूलम्ब का नियम
4. न्यूटन का गति का दूसरा नियम

Question ID : 9895807317
Chosen Option : 4

Q.4
1 'रिपब्लिक' पुस्तक के लेखक कौन हैं?

- Ans 1. अरस्तु
2. इमानुएल काण्ट
3. प्लेटो
4. सुकरात

Question ID : 9895807309
Chosen Option : 4

Q.4
2 2015 में, निम्नलिखित में से कौन बैडमिंटन रैंकिंग में शीर्ष स्थान पर पहुंचने वाली पहली भारतीय महिला खिलाड़ी है?

- Ans 1. पी.वी. सिंधु
2. ज्वाला गुट्टा
3. साइना नेहवाल
4. अश्विनी पोनप्पा

Question ID : 9895807306
Chosen Option : 3

Q.4
3 जनवरी 2019 तक, सार्क (SAARC) के महासचिव कौन हैं?

- Ans
- 1. अबुल अहसन
 - 2. के.के. सिंह
 - 3. अमजद हुसैन बी सियाल
 - 4. अर्जुन बहादुर थापा

Question ID : 9895807310

Chosen Option : 1

Q.4
4 किस संगठन को तीन बार नोबेल शांति पुरस्कार दिया गया है?

- Ans
- 1. संयुक्त राष्ट्र (UN)
 - 2. रेड क्रॉस की अंतर्राष्ट्रीय समिति (ICRC)
 - 3. विश्व बैंक
 - 4. अंतर्राष्ट्रीय श्रमिक संगठन (ILO)

Question ID : 9895807308

Chosen Option : 4

Q.4
5 निम्नलिखित में से कौन सी नेपाल की सबसे लंबी नदी है?

- Ans
- 1. राप्ती
 - 2. नारायणी
 - 3. महाकाली
 - 4. करनाली

Question ID : 9895807322

Chosen Option : 1

Q.4
6 ओरल पोलियो वैक्सीन का आविष्कार किसने किया था?

- Ans
- 1. जोनास साल्क
 - 2. जॉन नैश
 - 3. लुई पास्चर
 - 4. अल्बर्ट साबिन

Question ID : 9895807321

Chosen Option : 3

Q.4
7 1993 में डब्ल्यूटीओ कृषि समझौता किस राउंड में हस्तांतरित हुआ?

- Ans
- 1. उरुग्वे राउंड
 - 2. वाशिंगटन राउंड
 - 3. पेरिस राउंड
 - 4. ब्राजील राउंड

Question ID : 9895807313
Chosen Option : 2

Q.4
8 'डिज़ल' _____ का उदाहरण है।

- Ans
- 1. संघनन
 - 2. वाष्पीकरण
 - 3. अवक्षेपण
 - 4. निस्तारण

Question ID : 9895807320
Chosen Option : 2

Q.4
9 निम्नलिखित में से किस खिलाड़ी ने ओलंपिक खेलों में सर्वाधिक पदक जीते हैं?

- Ans
- 1. पावो नुरमी
 - 2. नादिया कोमांसी
 - 3. माइकल फेलप्स
 - 4. मार्क स्पिट्ज

Question ID : 9895807307
Chosen Option : 3

Q.5
0 किस वर्ष माता-पिता और वरिष्ठ नागरिकों का संरक्षण और कल्याण अधिनियम (मेंटेनंस और वेलफर ऑफ पेरेंट्स एंड सिनियर सिटिजन्स एक्ट) लागू हुआ?

- Ans
- 1. 2010
 - 2. 2005
 - 3. 2007
 - 4. 2004

Question ID : 9895807315
Chosen Option : 1

Q.5
1 2 mm व्यास के साथ 36 m लंबा एक तार, एक गोला बनाने के लिए पिघलाया जाता है। तो गोले की त्रिज्या _____ है।

- Ans
- 1. 4 cm
 - 2. 3 cm
 - 3. 6 cm
 - 4. 5 cm

Question ID : 9895807649
Chosen Option : 1

Q.5
2 100 संतरे ₹450 की दर से खरीदे गए हैं और ₹60 प्रति दर्जन की दर से बेचे गए हैं। लाभ या हानि का प्रतिशत _____ है।

- Ans
- 1. $11\frac{2}{9}$
 - 2. $11\frac{1}{9}$
 - 3. 11

4. $12\frac{1}{9}$

Question ID : 9895807636

Chosen Option : 3

Q.5 ट्रेन A को 800 किमी की दूरी तय करने के लिए ट्रेन B से 6 घंटे अधिक लगता है। यदि ट्रेन A की गति दोगुनी की जाती है तो वह ट्रेन B से 2 घंटे कम समय लेती है। ट्रेन B की गति क्या है?

- Ans 1. 75 km/h
 2. 50 km/h
 3. 80 km/h
 4. 60 km/h

Question ID : 9895807646

Chosen Option : 1

Q.5 निम्नलिखित में से किसका क्षेत्रफल सबसे बड़ा है?

- (a) $\sqrt{2}$ cm त्रिज्या का एक वृत्त
 (b) एक समबाहु त्रिभुज जिसकी भुजा 4 cm है
 (c) 3 cm, 4 cm और 5 cm भुजाओं वाला एक त्रिभुज
 (d) 2.5 cm और 2 cm भुजाओं वाला आयत

- Ans 1. c
 2. a
 3. d
 4. b

Question ID : 9895807647

Chosen Option : 1

Q.5 एक निवेशित राशि चक्रवृद्धि ब्याज पर 3 वर्ष में ₹8,500 और 4 वर्ष में ₹9,520 होगी। तो प्रति वर्ष ब्याज दर कितना है?

- Ans 1. 3%
 2. 12%
 3. 4%
 4. 8%

Question ID : 9895807642

Chosen Option : 3

Q.5 सबसे बड़ी संख्या, जिससे 1861 और 2039 को विभाजित करने पर क्रमशः 7 और 5 शेषफल रह जाता है, _____ है।

- Ans 1. 18
 2. 12
 3. 24
 4. 35

Question ID : 9895807628

Chosen Option : 2

Q.5 एक पुस्तकालय में रविवार को औसतन 480 और अन्य दिनों में 222 आगंतुक होते हैं। रविवार से शुरू होने वाले 30 दिनों के महीने में प्रति दिन आगंतुकों की औसत संख्या होती _____ है।

- Ans 1. 265
 2. 285
 3. 260
 4. 280

Question ID : 9895807631
 Chosen Option : 2

Q.5 निम्नलिखित तालिका का अध्ययन करें और उसके आधार पर प्रश्न का उत्तर दें।

8 दिए गए वर्षों में प्रति वर्ष एक कंपनी का व्यय (लाख ₹ में)।

वर्ष	व्यय का विषय				
	वेतन	इंधन और परिवहन	भोजना	शुष्क परभ्याज	कर
1998	288	98	3.00	23.4	83
1999	342	112	2.52	32.5	108
2000	324	101	3.84	41.6	74
2001	336	133	3.68	36.4	88
2002	420	142	3.96	49.4	98

दी गई अवधि के दौरान कंपनी द्वारा दिए गए करों की कुल राशि, इस अवधि के दौरान दिए गए वेतन की कुल राशि का लगभग कितना प्रतिशत है?

- Ans 1. 26.37%
 2. 27.47%
 3. 25.37%
 4. 24.47%

Question ID : 9895807652
 Chosen Option : 2

Q.5 तीन संख्याएं $\frac{1}{3} : \frac{2}{5} : \frac{1}{4}$ के अनुपात में हैं। सबसे बड़ी संख्या और सबसे छोटी संख्या के बीच का अंतर 9 है। संख्याएं ज्ञात करें।

- Ans 1. 20, 24, 15
 2. 30, 34, 21
 3. 42, 46, 33
 4. 24, 28, 15

Question ID : 9895807639
 Chosen Option : 2

Q.6 अमित और राम के पास मिल कर ₹1,300 हैं। अमित से ₹500 लेने पर, अमित के पास वही राशि होगी, जो राम के पास पहले थी। अमित और राम के पास शुरुआत में जो राशि थी, उसका अनुपात ज्ञात कीजिए।

- Ans 1. 1 : 3
 2. 4 : 3
 3. 7 : 1

✓ 4. 9 : 4

Question ID : 9895807640

Chosen Option : 2

Q.6 यदि किसी वृत्त की त्रिज्या में 5 cm जोड़ा जाता है, तो वृत्त की परिधि _____ बढ़ जाती है।

- Ans
- 1. 9π cm
 - 2. 5π cm
 - 3. 10π cm
 - 4. 6π cm

Question ID : 9895807648

Chosen Option : 4

Q.6 एक घड़ी का अंकित मूल्य ₹600 है। एक दुकानदार दो क्रमिक छूट देता है और ₹459 में घड़ी बेचता है। यदि पहली छूट 10% है, तो दूसरी छूट _____ है।

- Ans
- 1. 15%
 - 2. 20%
 - 3. 12%
 - 4. 10%

Question ID : 9895807633

Chosen Option : 1

Q.6 A एक कार्य अकेला 12 दिनों में और B अकेला 10 दिनों में कर सकता है। उन्होंने ₹440 में कार्य हाथ पर लिया। A को कितने रुपये मिलेंगे?

- Ans
- 1. ₹300
 - 2. ₹200
 - 3. ₹150
 - 4. ₹240

Question ID : 9895807643

Chosen Option : 2

Q.6 अपनी सामान्य गति के $\frac{3}{4}$ से चलते हुए, एक आदमी अपने कार्यालय में सामान्य समय से 30 min देर से पहुँचता है। कार्यालय पहुँचने में उसे सामान्य रूप से कितना समय लगता है?

- Ans
- 1. 80 min
 - 2. 90 min
 - 3. 60 min
 - 4. 70 min

Question ID : 9895807645

Chosen Option : 3

Q.6 एक कक्षा में 18 लड़कों का औसत वजन 52.5 kg है और बाकी 6 लड़कों का वजन 44.5 kg है। कक्षा के सभी लड़कों का औसत वजन ज्ञात करें।

- Ans
- 1. 50.5 kg
 - 2. 50 kg
 - 3. 51.5 kg

4. 52.5 kg

Question ID : 9895807632
Chosen Option : 3

Q.6 निम्नलिखित तालिका का अध्ययन करें और उसके आधार पर प्रश्न का उत्तर दें।

दिए गए वर्षों में प्रति वर्ष एक कंपनी का व्यय (लाख ₹ में)।

वर्ष	व्यय का विषय				
	वेतन	इंधन और परिवहन	बोनस	ऋण पर ब्याज	कर
1998	288	98	3.00	23.4	83
1999	342	112	2.52	32.5	108
2000	324	101	3.84	41.6	74
2001	336	133	3.68	36.4	88
2002	420	142	3.96	49.4	98

प्रति वर्ष बोनस की औसत राशि क्या है जो कंपनी को इस अवधि के दौरान चुकानी पड़ी?

- Ans 1. ₹4.2 लाख
 2. ₹3.4 लाख
 3. ₹3.5 लाख
 4. ₹3.2 लाख

Question ID : 9895807650
Chosen Option : 2

Q.6 A और B 15 दिनों में एक कार्य कर सकते हैं, B और C उसी कार्य को 20 दिनों में कर सकते हैं। यदि A, C से दोगुना अच्छा श्रमिक है, तो वह समय ज्ञात करें, जो C अकेले कार्य करने में लेगा।

- Ans 1. 33 दिन
 2. 60 दिन
 3. 45 दिन
 4. 27 दिन

Question ID : 9895807644
Chosen Option : 1

Q.6 सरलीकृत करें :

$$12 - 6.4 \div 8 + 0.7 \times 0.4$$

- Ans 1. 11.84
 2. 11.42
 3. 12.48
 4. 11.48

Question ID : 9895807629
Chosen Option : 3

Q.6 9, 14 और 99 में चौथा आनुपातिक क्या है?

- Ans 1. 154
 2. 145
 3. 451
 4. 541

Question ID : 9895807638
Chosen Option : 1

Q.7 निम्नलिखित तालिका का अध्ययन करें और उसके आधार पर प्रश्न का उत्तर दें।

दिए गए वर्षों में प्रति वर्ष एक कंपनी का व्यय (लाख ₹ में)।

वर्ष	व्यय का विषय				
	वेतन	इंधन और परिवहन	बोनस	ऋण पर ब्याज	कर
1998	288	98	3.00	23.4	83
1999	342	112	2.52	32.5	108
2000	324	101	3.84	41.6	74
2001	336	133	3.68	36.4	88
2002	420	142	3.96	49.4	98

1998 में इन सभी वस्तुओं पर कुल व्यय 2001 में कुल व्यय का लगभग कितना प्रतिशत था?

- Ans 1. 80.97%
 2. 72.97%
 3. 82.97%
 4. 82.79%

Question ID : 9895807651
Chosen Option : 2

Q.7 32 वस्तुओं का क्रय मूल्य x वस्तुओं के विक्रय मूल्य के समान है। यदि लाभ 28% है, तो x का मान _____ है।

- Ans 1. 15
 2. 20
 3. 25
 4. 16

Question ID : 9895807637
Chosen Option : 2

Q.7
2

एक राशि साधारण ब्याज की समान दर पर 5 वर्ष बाद ₹8,000 और 8 वर्ष बाद ₹9,800 होती है। प्रति वर्ष ब्याज दर कितना है?

- Ans
- 1. 8%
 - 2. 15%
 - 3. 12%
 - 4. 5%

Question ID : 9895807641
Chosen Option : 1

Q.7 यदि किसी निश्चित डेटा के माध्य और माध्यिका का अनुपात 2 : 3 है तो उसके मोड (बहुलक) और माध्य का अनुपात ज्ञात करें।

- Ans
- 1. 2 : 5
 - 2. 3 : 2
 - 3. 5 : 2
 - 4. 4 : 3

Question ID : 9895807634
Chosen Option : 2

Q.7 सरलीकृत करें :

$$14.62 - 0.5 \text{ of } (8.3 - 3.3) + 2.6 \times 4.04$$

- Ans
- 1. 22.642
 - 2. 23.624
 - 3. 22.624
 - 4. 24.624

Question ID : 9895807630
Chosen Option : 2

Q.7 दो दर्जियाँ X और Y को उनके नियोक्ता द्वारा प्रति सप्ताह कुल ₹660 का भुगतान किया जाता है। यदि X को Y को दी गई राशि का 120 प्रतिशत भुगतान किया जाता है, तो Y को प्रति सप्ताह (₹ में) कितना भुगतान किया जाता है?

- Ans
- 1. 300
 - 2. 200
 - 3. 350
 - 4. 250

Question ID : 9895807635
Chosen Option : 2

Section : English Language

Q.1 Select the antonym of the given word.

COURTEOUS

- Ans
- 1. Impartial
 - 2. Rude
 - 3. Detached

4. Independent

Question ID : 9895807973

Chosen Option : --

Q.2 From the given options, identify the segment in the sentence which contains the grammatical error.

Animals experience feelings of love and they also protect their young ones from difficulties as human does.

- Ans
- 1. they also protect
 - 2. Animals experience
 - 3. as human does
 - 4. feelings of love

Question ID : 9895807957

Chosen Option : --

Q.3 Select the synonym of the given word.

ADORN

- Ans
- 1. Create
 - 2. Produce
 - 3. Generate
 - 4. Decorate

Question ID : 9895807972

Chosen Option : --

Q.4 From the given options, identify the segment in the sentence which contains the grammatical error.

The constitutional order on which the Indian State run is that there shall be no discrimination on the basis of religion.

- Ans
- 1. there shall be
 - 2. order on which
 - 3. on the basis of
 - 4. Indian State run

Question ID : 9895807958

Chosen Option : --

Q.5 Select the word which means the same as the group of words given.

A poem of serious reflection, typically a lament for the dead.

- Ans
- 1. Hymn
 - 2. Elegy
 - 3. Ballad
 - 4. Sonnet

Question ID : 9895807978

Chosen Option : --

Q.6

Select the synonym of the given word.

BRITTLE

- Ans
- 1. Coarse
 - 2. Enduring
 - 3. Delicate
 - 4. Durable

Question ID : 9895807971
Chosen Option : --

Q.7 Select the correctly spelt word.

- Ans
- 1. Emergancy
 - 2. Emergency
 - 3. Emeregency
 - 4. Emargency

Question ID : 9895807979
Chosen Option : --

Q.8 Select the most appropriate word to fill in the blank.

When the bat pays attention to an object, the _____ of that object sharpens in its brain.

- Ans
- 1. representation
 - 2. depiction
 - 3. appearance
 - 4. portrait

Question ID : 9895807981
Chosen Option : --

Q.9 Select the option that means the same as the given idiom.

To kill two birds with one stone

- Ans
- 1. To shoo away birds
 - 2. To shout at two individuals at a time
 - 3. To achieve two aims simultaneously
 - 4. To do many jobs at different places

Question ID : 9895807975
Chosen Option : --

Q.1 Select the most appropriate option to substitute the underlined segment in the given sentence. If there is no need to substitute it, select No improvement.

The family had been without food for four days.

- Ans
- 1. family are been
 - 2. family is been

3. family is being
4. No improvement

Question ID : 9895807962
Chosen Option : --

Q.1
1 Select the option that means the same as the given idiom.

To bell the cat

- Ans 1. To catch a cat and bell it first
2. To be alert to danger anywhere
3. To take a lead in difficult situations
4. To tie a bell for a cat at home

Question ID : 9895807976
Chosen Option : --

Q.1
2 From the given options, identify the segment in the sentence which contains the grammatical error.

Hackers can either tampers with a random number generator or figure out the resultant number easily in case of online gaming.

- Ans 1. figure out
2. with a random number
3. in case of
4. Hackers can either tampers

Question ID : 9895807959
Chosen Option : --

Q.1
3 Select the most appropriate option to substitute the underlined segment in the given sentence. If there is no need to substitute it, select No improvement.

Permit me to speak the truth and I have say it without any fear.

- Ans 1. No improvement
2. I had say it without any fear
3. I shall said it without any fear
4. I will say it without any fear

Question ID : 9895807960
Chosen Option : --

Q.1
4 Select the most appropriate option to substitute the underlined segment in the given sentence. If there is no need to substitute it, select No improvement.

In case of actual requirement, there is a dearth of woman army officer in our state.

- Ans 1. women army officer
2. woman army officers
3. No improvement
4. women army officers

Question ID : 9895807961

Chosen Option : --

Q.1
5 Select the most appropriate option to fill in the blank.

The earth _____ round the sun and not the vice-versa.

- Ans
- 1. revolving
 - 2. revolves
 - 3. revolve
 - 4. has revolve

Question ID : 9895807963
Chosen Option : --

Comprehension:

In the following passage some words have been deleted. Fill in the blanks with the help of the alternatives given.

Violence is an expression of aggression. There can be various reasons that cause this kind of behaviour. Various (1) _____ social situations or circumstances in life affect an individual adversely. The reaction to those situations is (2) _____. Those who are short tempered or are unable to cope with the changing environment find it hard to behave (3) _____. This frustration comes out in the form of anger and violent behaviour. Though, environmental factors are responsible but only to an (4) _____. Psychologists believe that violent traits are (5) _____ in nature and are likely to surface sooner or later.

SubQuestion No : 16

Q.1
6 Select the most appropriate option that will fill in the blank number 1.

- Ans
- 1. lucky
 - 2. destined
 - 3. favourable
 - 4. unfavourable

Question ID : 9895807966
Chosen Option : --

Comprehension:

In the following passage some words have been deleted. Fill in the blanks with the help of the alternatives given.

Violence is an expression of aggression. There can be various reasons that cause this kind of behaviour. Various (1) _____ social situations or circumstances in life affect an individual adversely. The reaction to those situations is (2) _____. Those who are short tempered or are unable to cope with the changing environment find it hard to behave (3) _____. This frustration comes out in the form of anger and violent behaviour. Though, environmental factors are responsible but only to an (4) _____. Psychologists believe that violent traits are (5) _____ in nature and are likely to surface sooner or later.

SubQuestion No : 17

Q.1
7 Select the most appropriate option that will fill in the blank number 2.

- Ans
- 1. pleasant
 - 2. suitable
 - 3. indecisive
 - 4. agreeable

Question ID : 9895807967

Chosen Option : --

Comprehension:

In the following passage some words have been deleted. Fill in the blanks with the help of the alternatives given.

Violence is an expression of aggression. There can be various reasons that cause this kind of behaviour. Various (1) _____ social situations or circumstances in life affect an individual adversely. The reaction to those situations is (2) _____. Those who are short tempered or are unable to cope with the changing environment find it hard to behave (3) _____. This frustration comes out in the form of anger and violent behaviour. Though, environmental factors are responsible but only to an (4) _____. Psychologists believe that violent traits are (5) _____ in nature and are likely to surface sooner or later.

SubQuestion No : 18

Q.1
8 Select the most appropriate option that will fill in the blank number 3.

- Ans
- 1. eagerly
 - 2. negatively
 - 3. rationally
 - 4. harshly

Question ID : 9895807968
Chosen Option : --

Comprehension:

In the following passage some words have been deleted. Fill in the blanks with the help of the alternatives given.

Violence is an expression of aggression. There can be various reasons that cause this kind of behaviour. Various (1) _____ social situations or circumstances in life affect an individual adversely. The reaction to those situations is (2) _____. Those who are short tempered or are unable to cope with the changing environment find it hard to behave (3) _____. This frustration comes out in the form of anger and violent behaviour. Though, environmental factors are responsible but only to an (4) _____. Psychologists believe that violent traits are (5) _____ in nature and are likely to surface sooner or later.

SubQuestion No : 19

Q.1
9 Select the most appropriate option that will fill in the blank number 4.

- Ans
- 1. extent
 - 2. range
 - 3. end
 - 4. intent

Question ID : 9895807969
Chosen Option : --

Comprehension:

In the following passage some words have been deleted. Fill in the blanks with the help of the alternatives given.

Violence is an expression of aggression. There can be various reasons that cause this kind of behaviour. Various (1) _____ social situations or circumstances in life affect an individual adversely. The reaction to those situations is (2) _____. Those who are short tempered or are unable to cope with the changing environment find it hard to behave (3) _____. This frustration comes out in the form of anger and violent behaviour. Though, environmental factors are responsible but only to an (4) _____. Psychologists believe that violent traits are (5) _____ in nature and are likely to surface sooner or later.

SubQuestion No : 20

Q.2
0 Select the most appropriate option that will fill in the blank number 5.

- Ans
- 1. extrinsic
 - 2. inherent
 - 3. common
 - 4. general

Question ID : 9895807970
Chosen Option : --

Q.2
1 Select the most appropriate word to fill in the blank.

In order to cut down on errors, a keyboard that can be _____ to suit individual typing style is needed.

- Ans
- 1. predicted
 - 2. shared
 - 3. projected
 - 4. adjusted

Question ID : 9895807982
Chosen Option : --

Q.2
2 Select the word which means the same as the group of words given.

An introduction made by the dramatist at the beginning of the play

- Ans
- 1. Dialogue
 - 2. Epilogue
 - 3. Monologue

4. Prologue

Question ID : 9895807977

Chosen Option : --

Q.2
3 Select the correctly spelt word.

- Ans
- 1. Tuition
 - 2. Tuiton
 - 3. Tuitoin
 - 4. Tution

Question ID : 9895807980

Chosen Option : --

Q.2
4 Select the most appropriate option to fill in the blank.

Disputes destroy your happiness and distract you _____ your everyday tasks at work and home.

- Ans
- 1. off
 - 2. from
 - 3. away
 - 4. at

Question ID : 9895807964

Chosen Option : --

Q.2
5 Select the antonym of the given word.

FUTILE

- Ans
- 1. Mutual
 - 2. Fruitful
 - 3. Collective
 - 4. Common

Question ID : 9895807974

Chosen Option : --

Section : Hindi Language

Q.1 निम्नलिखित में से उस विकल्प का चयन करें जो 'टेढ़ी खीर होना' मुहावरे का अर्थ व्यक्त करता है।

- Ans
- 1. असंभव कार्य
 - 2. खीर खराब होना
 - 3. टेढ़े होकर खीर खाना
 - 4. कार्य का बहुत कठिन होना

Question ID : 9895806756

Chosen Option : 4

Q.2

दिए गए वाक्य का वह भाग ज्ञात करें जिसमें कोई त्रुटि है।

भारत जैसा सहिष्णुता और उदारता से ही विश्वशांति संभव है।

Ans

- 1. भारत जैसा
- 2. सहिष्णुता और उदारता
- 3. संभव है।
- 4. से ही विश्वशांति

Question ID : 9895806736
Chosen Option : 4

Q.3 दिए गए शब्द का विलोम चुनें।

विराम

Ans

- 1. शून्य
- 2. गति
- 3. शांत
- 4. अशून्य

Question ID : 9895806751
Chosen Option : 3

Q.4 सही वर्तनी वाले शब्द का चयन करें।

Ans

- 1. स्वद्विस्ट
- 2. स्वादिश्ट
- 3. स्वदिस्ट
- 4. स्वादिष्ठ

Question ID : 9895806760
Chosen Option : 3

Q.5 सही वर्तनी वाले शब्द का चयन करें।

Ans

- 1. ईत्यादी
- 2. इत्यादि
- 3. इत्यादि
- 4. इत्यादी

Question ID : 9895806759
Chosen Option : 1

Q.6

रिक्त स्थान को भरने के लिए उपयुक्त शब्द का चयन करें।

मुझे खेद है _____ मैं देर से पहुँचा।

- Ans
- 1. कि
 - 2. यदि
 - 3. परंतु
 - 4. किंतु

Question ID : 9895806741
Chosen Option : 1

Q.7 दिये गये वाक्यांश के लिए एक शब्द दीजिये।

ऊपर लिखी हुई

- Ans
- 1. अधोलिखित
 - 2. उल्लिखित
 - 3. अलिखित
 - 4. निम्नलिखित

Question ID : 9895806758
Chosen Option : 4

Q.8 दिए गए शब्द का विलोम चुनें।

सुकर

- Ans
- 1. दुष्कर
 - 2. दुकर
 - 3. निराकार
 - 4. पुष्कर

Question ID : 9895806752
Chosen Option : 4

Q.9 रिक्त स्थान को भरने के लिए उपयुक्त शब्द का चयन करें।

दीपक _____ परिश्रमी है।

- Ans
- 1. सबका
 - 2. सब द्वारा
 - 3. सब पर
 - 4. सबसे

Question ID : 9895806744

Chosen Option : 4

Q.1
0 दिए गए वाक्य का वह भाग ज्ञात करें जिसमें कोई त्रुटि है।

विज्ञान की प्रगति से मनुष्य की समस्याओं में कमी आया है।

- Ans
- 1. विज्ञान की
 - 2. कमी आया है।
 - 3. मनुष्य की समस्याओं में
 - 4. प्रगति से

Question ID : 9895806735

Chosen Option : 1

Q.1
1 रिक्त स्थान को भरने के लिए उपयुक्त शब्द का चयन करें।

तालाब में उगा _____ बहुत सुंदर लगता है।

- Ans
- 1. चन्द्रमा
 - 2. कमल
 - 3. सूरज
 - 4. घास

Question ID : 9895806742

Chosen Option : 2

Comprehension:

निम्नलिखित गद्यांश के रिक्त स्थानों की पूर्ति गद्यांश के नीचे दिए गए प्रश्नों के अनुसार कीजिए-

बैसाखी उत्तर भारत का प्रमुख _____ (1) है। यह त्योहार पंजाब, हरियाणा, हिमाचल और दिल्ली में विशेष रूप से _____ (2) जाता है। इस दिन को रबी की फसल तैयार होने की _____ (3) में मनाया जाता है। इसलिए इसे कृषि पर्व भी कहा जाता है। इस दिन जगह-जगह _____ (4) लगते हैं। इस दिन खालसा पंथ की स्थापना की खुशी में पंच प्यारों को याद करते हुए _____ (5) निकाले जाते हैं।

SubQuestion No : 12

Q.1
2 गद्यांश में संकेतित रिक्त स्थान (1) के लिए उपयुक्त शब्द होगा।

- Ans
- 1. त्योहार
 - 2. हथियार
 - 3. बाज़ार

4. आनंद

Question ID : 9895806746
Chosen Option : 1

Comprehension:

निम्नलिखित गद्यांश के रिक्त स्थानों की पूर्ति गद्यांश के नीचे दिए गए प्रश्नों के अनुसार कीजिए-

बैसाखी उत्तर भारत का प्रमुख _____ (1) है। यह त्योहार पंजाब, हरियाणा, हिमाचल और दिल्ली में विशेष रूप से _____ (2) जाता है। इस दिन को रबी की फसल तैयार होने की _____ (3) में मनाया जाता है। इसलिए इसे कृषि पर्व भी कहा जाता है। इस दिन जगह-जगह _____ (4) लगते हैं। इस दिन खालसा पंथ की स्थापना की खुशी में पंच प्यारों को याद करते हुए _____ (5) निकाले जाते हैं।

SubQuestion No : 13

Q.1
3 गद्यांश में संकेतित रिक्त स्थान (2) के लिए उपयुक्त शब्द होगा।

- Ans
- 1. लगाया
 - 2. बनाया
 - 3. मनाया
 - 4. कराया

Question ID : 9895806747
Chosen Option : 3

Comprehension:

निम्नलिखित गद्यांश के रिक्त स्थानों की पूर्ति गद्यांश के नीचे दिए गए प्रश्नों के अनुसार कीजिए-

बैसाखी उत्तर भारत का प्रमुख _____ (1) है। यह त्योहार पंजाब, हरियाणा, हिमाचल और दिल्ली में विशेष रूप से _____ (2) जाता है। इस दिन को रबी की फसल तैयार होने की _____ (3) में मनाया जाता है। इसलिए इसे कृषि पर्व भी कहा जाता है। इस दिन जगह-जगह _____ (4) लगते हैं। इस दिन खालसा पंथ की स्थापना की खुशी में पंच प्यारों को याद करते हुए _____ (5) निकाले जाते हैं।

SubQuestion No : 14

Q.1
4 गद्यांश में संकेतित रिक्त स्थान (3) के लिए उपयुक्त शब्द होगा।

- Ans
- 1. गम
 - 2. खुशी

3. शौक

4. हँसी

Question ID : 9895806748
Chosen Option : 2

Comprehension:

निम्नलिखित गद्यांश के रिक्त स्थानों की पूर्ति गद्यांश के नीचे दिए गए प्रश्नों के अनुसार कीजिए-

बैसाखी उत्तर भारत का प्रमुख _____ (1) है। यह त्योहार पंजाब, हरियाणा, हिमाचल और दिल्ली में विशेष रूप से _____ (2) जाता है। इस दिन को रबी की फसल तैयार होने की _____ (3) में मनाया जाता है। इसलिए इसे कृषि पर्व भी कहा जाता है। इस दिन जगह-जगह _____ (4) लगते हैं। इस दिन खालसा पंथ की स्थापना की खुशी में पंच प्यारों को याद करते हुए _____ (5) निकाले जाते हैं।

SubQuestion No : 15

Q.1
5 गद्यांश में संकेतित रिक्त स्थान (4) के लिए उपयुक्त शब्द होगा।

- Ans
1. सम्मेलन
2. रैली
3. जमघट
4. मेले

Question ID : 9895806749
Chosen Option : 4

Comprehension:

निम्नलिखित गद्यांश के रिक्त स्थानों की पूर्ति गद्यांश के नीचे दिए गए प्रश्नों के अनुसार कीजिए-

बैसाखी उत्तर भारत का प्रमुख _____ (1) है। यह त्योहार पंजाब, हरियाणा, हिमाचल और दिल्ली में विशेष रूप से _____ (2) जाता है। इस दिन को रबी की फसल तैयार होने की _____ (3) में मनाया जाता है। इसलिए इसे कृषि पर्व भी कहा जाता है। इस दिन जगह-जगह _____ (4) लगते हैं। इस दिन खालसा पंथ की स्थापना की खुशी में पंच प्यारों को याद करते हुए _____ (5) निकाले जाते हैं।

SubQuestion No : 16

Q.1
6 गद्यांश में संकेतित रिक्त स्थान (5) के लिए उपयुक्त शब्द होगा।

- Ans
- 1. जुलूस
 - 2. लीला
 - 3. प्रदर्शन
 - 4. विज्ञापन

Question ID : 9895806750
Chosen Option : 4

Q.1
7 दिये गये वाक्यांश के लिए एक शब्द दीजिये।

जो करने योग्य न हो

- Ans
- 1. अकरणीय
 - 2. रमणीय
 - 3. दर्शनीय
 - 4. शोभनीय

Question ID : 9895806757
Chosen Option : 2

Q.1
8 दिए गए वाक्य में रेखांकित खंड को प्रतिस्थापित करने के लिए उपयुक्त विकल्प का चयन करें।

यह सिद्धांत हमारी विरासत का एक अंश है।

- Ans
- 1. भाग
 - 2. कुल
 - 3. परिवार
 - 4. मौका

Question ID : 9895806740
Chosen Option : 1

Q.1
9 दिए गए शब्द के पर्यायवाची शब्द का चयन करें।

अंधकार

- Ans
- 1. गहरा
 - 2. नीरस
 - 3. तिमिर
 - 4. निवेदन

Question ID : 9895806754
Chosen Option : 2

Q.2
0 दिए गए वाक्य का वह भाग जात करें जिसमें कोई त्रुटि है।

भारत ने अन्य राष्ट्रों को नैतिक मूल्यों का पालन करने का प्रेरणा दी है।

- Ans
- 1. भारत ने
 - 2. नैतिक मूल्यों का पालन
 - 3. करने का प्रेरणा दी है।
 - 4. अन्य राष्ट्रों को

Question ID : 9895806737
Chosen Option : 4

Q.2
1 दिए गए शब्द के पर्यायवाची शब्द का चयन करें।

सूर्य

- Ans
- 1. प्रार्थना
 - 2. अभिन्न
 - 3. दिवाकर
 - 4. सेवक

Question ID : 9895806753
Chosen Option : 3

Q.2
2 निम्नलिखित में से उस विकल्प का चयन करें जो 'श्री गणेश करना' मुहावरे का अर्थ व्यक्त करता है।

- Ans
- 1. कार्य सम्पन्न होना
 - 2. श्री गणेश का पूजन करना
 - 3. कार्य आरंभ करना
 - 4. पालन करना

Question ID : 9895806755
Chosen Option : 2

Q.2
3 रिक्त स्थान को भरने के लिए उपयुक्त शब्द का चयन करें।

मिठाइयों पर _____ बैठी हैं।

- Ans
- 1. गिरगिट
 - 2. मक्खियाँ
 - 3. तितलियाँ
 - 4. चूहे

Question ID : 9895806743
Chosen Option : 2

Q.2
4 दिए गए वाक्य में रेखांकित खंड को प्रतिस्थापित करने के लिए उपयुक्त विकल्प का चयन करें।

सार में परिष्कृत रचना के गुणों का होना आवश्यक है।

- Ans
- 1. टिप्पण

2. पल्लवन
 3. प्रतिवेदन
 4. संक्षेपण

Question ID : 9895806739
Chosen Option : 3

Q.2
5 दिए गए वाक्य में रेखांकित खंड को प्रतिस्थापित करने के लिए उपयुक्त विकल्प का चयन करें।

दोनों में से किसी की उपेक्षा नहीं की जा सकती।

- Ans 1. इच्छा
 2. तिरस्कार
 3. अवहेलना
 4. निरादर

Question ID : 9895806738
Chosen Option : 3

KD Job Updates

Constable (GD) in CAPFs, NIA, SSF and Rifleman (GD) in Assam Rifles Examination, 2018

Roll No. :	
Registration No.	
Name :	
Exam Venue :	
Exam Time :	9:00 AM - 10:30 AM
Exam Date :	03/03/2019

Section : General Section

Q.1 यदि RED को 19 के रूप में कूटबद्ध किया गया है, तो WED को कैसे कूटबद्ध किया जाएगा?

- Ans
- 1. 21
 - 2. 24
 - 3. 28
 - 4. 22

Question ID : 9895808296
Chosen Option : 2

Q.2 सोनम बड़ी है रेनू से। कोमल छोटी है रेनू से। प्रिया बड़ी है सोनम से। इनमें से सबसे बड़ा कौन है?

- Ans
- 1. कोमल
 - 2. सोनम
 - 3. रेनू
 - 4. प्रिया

Question ID : 9895808299
Chosen Option : 4

Q.3 उस विकल्प का चयन करें जो सही रूप में रिक्त स्थान की पूर्ति करते हुए श्रृंखला को पूरा करें।

14, 18, 24, 32, 42, ?

- Ans
- 1. 50
 - 2. 52
 - 3. 54
 - 4. 48

Question ID : 9895808303
Chosen Option : 3

Q.4 उस विकल्प का चयन करें जो चौथे पद से उसी तरह संबंधित है जिस प्रकार पहला पद दूसरे पद से संबंधित है।

MNQR : LMPQ :: ? : RSVW

- Ans
- 1. SVWY
 - 2. VTWY

✓ 3. STWX

✗ 4. WYTS


Question ID : 9895808294

Chosen Option : 3

Q.5 वेन आरेख का चयन करें जो दिए गए तीन वर्गों के बीच के संबंध को सर्वोत्तम दर्शाता है।

कीबोर्ड, मॉनिटर, माउस

Ans



Question ID : 9895808313

Chosen Option : 2

Q.6 किसी निश्चित कूट में "SMART" को "RXXNO" के रूप में लिखा जाता है। उसी कूट में GREAT को कैसे लिखा जाएगा?

Ans

✗ 1. BGFWO

✗ 2. RPFGW

✓ 3. FPBWO

✗ 4. FPBWR

Question ID : 9895808295

Chosen Option : 3

Q.7 निम्नलिखित में से कौन सी उत्तर आकृति दी गई आकृति को पूरा करेगी?

प्रश्न आकृति:



Ans





Question ID : 9895808309
Chosen Option : 2

Q.8 उस विकल्प का चयन करें जो सही रूप में रिक्त स्थान की पूर्ति करते हुए श्रृंखला को पूरा करें।

117, 107, 92, 72, _____

- Ans 1. 42
 2. 37
 3. 47
 4. 52

Question ID : 9895808302
Chosen Option : 3

Q.9 यदि '+' का अर्थ है 'x', '-' का अर्थ है '+', 'x' का अर्थ है '+' और '+' का अर्थ है '-', तो निम्न समीकरण का मान ज्ञात करें

$$21 + 8 + 2 - 12 \times 3 = ?$$

- Ans 1. 10
 2. 13.5
 3. 14
 4. 9

Question ID : 9895808307
Chosen Option : 3

Q.1 दिए गए विकल्पों में से लुप्त संख्या ज्ञात करें।



- Ans 1. 24
 2. 48
 3. 56
 4. 12

Question ID : 9895808306
Chosen Option : 4

Q.1 चार विकल्प दिए गए हैं, जिनमें से तीन किसी तरह से समान हैं, जबकि एक अलग है। असंगत का चयन करें।

- Ans 1. 3196
 2. 2248
 3. 3036

4. 1258

Question ID : 9895808305

Chosen Option : 4

Q.1 ₂ उस विकल्प का चयन करें जो सही रूप में रिक्त स्थान की पूर्ति करते हुए श्रृंखला को पूरा करें।

A, G, L, P, S, _____

- Ans
1. Y
2. W
3. X
4. U

Question ID : 9895808289

Chosen Option : 4

Q.1 ₃ उस विकल्प आकृति का चयन करें, जिसमें प्रश्न आकृति छिपी हुई / अंतर्निहित है।

प्रश्न आकृति



Ans

- 1.
- 2.
- 3.
- 4.

Question ID : 9895808310

Chosen Option : 4

Q.1 ₄ उस विकल्प का चयन करें जो तीसरे पद से उसी तरह संबंधित है जिस प्रकार पहला पद दूसरे पद से संबंधित है।

42 : 72 :: 12 : ?

- Ans
1. 43
2. 30
3. 48
4. 35

Question ID : 9895808304

Chosen Option : 2

Q.1

5 उस विकल्प का चयन करें जो तीसरे पद से उसी तरह संबंधित है जिस प्रकार पहला पद दूसरे पद से संबंधित है।

आम : फल :: आलू : ?

- Ans
1. फूल
2. सब्जी
3. तना
4. फल

Question ID : 9895808293
Chosen Option : 3

Q.1 P, M, D, A, F, H, R और B एक सर्कल के चारों ओर केन्द्र की ओर मुख किये बैठे हैं। R, A के दाएँ से चौथे स्थान पर है, जो P के दाएँ से तीसरे स्थान पर है। M, H के बाएँ से दूसरे स्थान पर है, जो P के बाएँ से दूसरे स्थान पर है। D, B के दाएँ से तीसरे स्थान पर है।

निम्न में से कौन-सा जोड़ा B के निकटतम पड़ोसियों को दर्शाता है?

- Ans
1. AF
2. MP
3. FM
4. AP

Question ID : 9895808297
Chosen Option : --

Q.1 नीचे दिए गए कथनों के बाद दो निष्कर्ष I और II दिए गए हैं। यह मानते हुए कि कथनों में दी गई जानकारी सत्य है, भले ही वह सर्वज्ञात तथ्यों से भिन्न प्रतीत होती हो और यह निर्णय करें कि कौन सा/से निष्कर्ष तार्किक और निश्चित रूप से कथन में दी गई जानकारी का अनुसरण करता है/करते हैं।

कथन:

सभी गुलाब फल हैं।
सभी फल पेड़ हैं।

निष्कर्ष:

- I. सभी पेड़ गुलाब हैं।
II. कुछ फल गुलाब हैं।

- Ans
1. या तो निष्कर्ष I या II अनुसरण करता है।
2. केवल निष्कर्ष II अनुसरण करता है।
3. दोनों निष्कर्ष I और II अनुसरण करते हैं।
4. केवल निष्कर्ष I अनुसरण करता है।

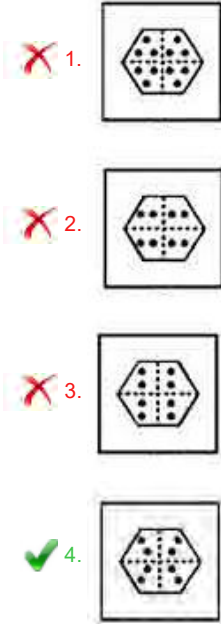
Question ID : 9895808301
Chosen Option : 3

Q.1 नीचे एक कागज़ को नीचे प्रश्न आकृति में दर्शाये अनुसार मोड़ा और काटा गया है। इस कागज़ को खोलने पर दी गयी उत्तर आकृतियों में से कौन सी आकृति दिखाई देगी?

प्रश्न आकृति:



Ans



Question ID : 9895808312
Chosen Option : 2

Q.1 9 चार अक्षर समूह दिए गए हैं, जिनमें से तीन किसी तरह से समान हैं, जबकि एक अलग है। असंगत अक्षर समूह का चयन करें।

- Ans
1. ACF
2. KMP
3. BCG
4. TVY

Question ID : 9895808290
Chosen Option : 3

Q.2 0 चार शब्द दिए गए हैं, जिनमें से तीन किसी तरह से समान हैं, जबकि एक अलग है। असंगत शब्द का चयन करें।

- Ans
1. अंधा
2. बहरा
3. गूंगा
4. विवर

Question ID : 9895808291
Chosen Option : 4

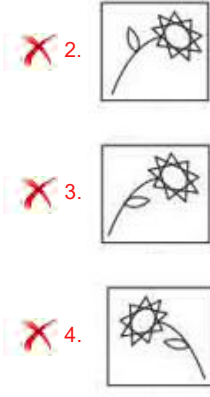
Q.2 1 उस विकल्प का चयन करें जो दर्पण के दाएँ ओर रखे जाने पर दी गई आकृति की दर्पण छवि से सर्वाधिक मेल खाता है।

प्रश्न आकृति



Ans





Question ID : 9895808311
Chosen Option : 3

Q.2 उस विकल्प का चयन करें जो तीसरे पद से उसी तरह संबंधित है जिस प्रकार दूसरा पद पहले पद से संबंधित है।

टेलीविजन : दूरदर्शन-प्रसारण : : रेडियो : ?

- Ans
- 1. मित्रता
 - 2. बातें करना
 - 3. लिखना
 - 4. प्रसारण

Question ID : 9895808292
Chosen Option : 4

Q.2 A, B, C, D, E, F, G और H एक गोल मेज के चारों ओर बैठे हैं और केंद्र की ओर मुख किये हुए हैं। D, H के दाएँ से चौथे स्थान पर है तथा B के बाएँ से दूसरे स्थान पर है। F, B के दाएँ से चौथे स्थान पर है। C, E के दाएँ से चौथे स्थान पर है जो कि B या D के तुरंत दाएँ नहीं है। A, D का तुरंत पड़ोसी नहीं है।

निम्नलिखित संयोजन में से किसमें तीसरा व्यक्ति पहले और दूसरे व्यक्ति के बीच में बैठा है?

- Ans
- 1. CBA
 - 2. AHE
 - 3. GCD
 - 4. ABC

Question ID : 9895808298
Chosen Option : --

Q.2 नीचे दिए गए कथनों के बाद दो निष्कर्ष I और II दिए गए हैं। यह मानते हुए कि कथनों में दी गई जानकारी सत्य है, भले ही वह सर्वज्ञात तथ्यों से भिन्न प्रतीत होती हो और यह निर्णय करें कि कौन सा/से निष्कर्ष तार्किक और निश्चित रूप से कथन में दी गई जानकारी का अनुसरण करता है/करते हैं।

कथन:

कुछ अंगूर आम हैं।
सभी आम सेब हैं।

निष्कर्ष:

- I. कुछ आम अंगूर हैं।
- II. सभी सेब अंगूर हैं।

- Ans
- 1. दोनों निष्कर्ष I और II अनुसरण करते हैं।
 - 2. केवल निष्कर्ष I अनुसरण करता है।

3. केवल निष्कर्ष ॥ अनुसरण करता है।

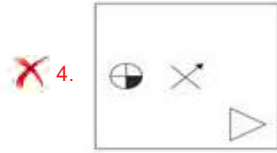
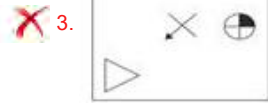
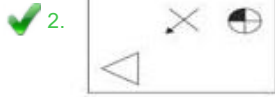
4. या तो निष्कर्ष । या ॥ अनुसरण करता है।

Question ID : 9895808300
Chosen Option : 2

Q.2
5 वह विकल्प चुनें जो दी गई आकृति श्रृंखला को पूरा करता है



Ans



Question ID : 9895808308
Chosen Option : 2

Q.2
6 वेबर किसकी इकाई है?

Ans

1. चुंबकीय प्रवाह घनत्व

2. विद्युत चालकत्व

3. धारिता

4. चुंबकीय प्रवाह

Question ID : 9895807368
Chosen Option : 2

Q.2
7 लोकतंत्र में राजनीतिक और सामाजिक असमानताओं पर अध्ययन से किस बात का पता चलता है?

Ans

1. लोकतंत्र विकास को रोकता है

2. तानाशाही लोकतंत्र से बेहतर है

3. तानाशाही में असमानताएं मौजूद नहीं हैं

4. लोकतंत्र में असमानताएं मौजूद हैं

Question ID : 9895807364
Chosen Option : 4

Q.2 निम्नलिखित में से कौन सा भारतीय राष्ट्रीय राजनीतिक दल 1885 में स्थापित सबसे पुराना दल है और जिसने कई बार विभाजन का सामना किया है?

Ans

1. बहुजन समाज पार्टी (BSP)

2. भारतीय राष्ट्रीय कांग्रेस (INC)

3. राष्ट्रवादी कांग्रेस पार्टी (NCP)

4. भारतीय कम्युनिस्ट पार्टी - मार्क्सवादी (CPI-M)

Question ID : 9895807365
Chosen Option : 2

Q.2 ब्रिटिश संसद में सदस्य बनने वाले पहले भारतीय का नाम बताइए।

Ans

1. दादाभाई नौरोजी

2. जमशेदजी टाटा

3. भीकाजी कामा

4. पीलू मोदी

Question ID : 9895807376
Chosen Option : 1

Q.3 आर्थिक सर्वे रिपोर्ट 2017-18 के अनुसार वित्तीय वर्ष 2017-18 के लिए सकल घरेलू उत्पाद (जीडीपी) की वृद्धि दर कितनी बताई गई?

Ans

1. 6.75%

2. 7.25%

3. 5.75%

4. 8.25%

Question ID : 9895807361
Chosen Option : 3

Q.3 भारत रत्न प्राप्त करने वाले किस व्यक्ति का जन्मदिन इंजिनियर दिवस के रूप में मनाया जाता है?

Ans

1. जे आर डी टाटा

2. एम विश्वेश्वरैया

3. अब्दुल कलाम आजाद

4. सी वी रमन

Question ID : 9895807358
Chosen Option : 1

Q.3
2

भारतीय महिला की सबसे पहली ज्ञात आत्मकथा कौन सी है?

- Ans
- 1. सिटी ऑफ़ 2 गेटवेज
 - 2. माय रेमनिसन्सिज़
 - 3. अमर जीवन
 - 4. बिआन्ड द जंगल

Question ID : 9895807360
Chosen Option : 1

Q.3 किरन देसाई की कौन सी पुस्तक संपत चावला नाम के एक युवा की कहानी है?

- Ans
- 1. एन ईक्वल म्यूजिक
 - 2. हलबलू इन द गुआवा ऑर्चर्ड
 - 3. सेलेक्शन डे
 - 4. इट हैपेन्स फॉर अ रीजन

Question ID : 9895807359
Chosen Option : 4

Q.3 निम्न में से कौन सा नृत्य मध्य प्रदेश की एक नृत्य शैली है?

- Ans
- 1. माचा
 - 2. लेजिम
 - 3. चेराव
 - 4. ओडूम थुल्लल

Question ID : 9895807355
Chosen Option : 1

Q.3 केंद्रीय बजट 2018 में खाद्य प्रसंस्करण के लिए कितनी राशि आवंटित की, जोकि पिछले वर्ष आवंटित की गई राशि की तुलना में लगभग दोगुनी थी?

- Ans
- 1. ₹2,900 करोड़
 - 2. ₹1,900 करोड़
 - 3. ₹2,400 करोड़
 - 4. ₹1,400 करोड़

Question ID : 9895807362
Chosen Option : 3

Q.3 1774 में सर्वोच्च न्यायालय को किस शहर में फोर्ट विलियम में शीर्ष न्यायालय के रूप में स्थापित किया गया?

- Ans
- 1. कोलकाता
 - 2. दिल्ली
 - 3. शिमला
 - 4. मुंबई

Question ID : 9895807366
Chosen Option : 1

Q.3 2018 के सुल्तान अजलन शाह कप में, भारत ने पांचवें स्थान पर आने के लिए 4-1 से किस देश को हराया था?
7

- Ans
- 1. पाकिस्तान
 - 2. आयरलैंड
 - 3. ऑस्ट्रेलिया
 - 4. मलेशिया

Question ID : 9895807356
Chosen Option : 4

Q.3 सिक्किम के लोकगीतों के उस प्रकार का नाम बताइए जो राज्य के प्राकृतिक सौंदर्य का वर्णन करते हैं।
8

- Ans
- 1. मांडो
 - 2. देखनी
 - 3. खुबाक एशेई
 - 4. घा तो कितो

Question ID : 9895807353
Chosen Option : 1

Q.3 निम्न में से कौन एक तांबे का अयस्क खनिज है?
9

- Ans
- 1. गलेना
 - 2. सिनेबार
 - 3. चाल्कोसाइट
 - 4. केसिटराइट

Question ID : 9895807370
Chosen Option : 1

Q.4 1529 में घाघरा के युद्ध में मुगल बादशाह बाबर ने किसे हराया था?
0

- Ans
- 1. कासिम बरीद I
 - 2. दिलावर खान हुसैन
 - 3. महमूद लोदी
 - 4. यूसुफ आदिल शाह

Question ID : 9895807377
Chosen Option : 3

Q.4 एसिटोनाइट्रिल का सूत्र क्या है?
1

- Ans
- 1. C₂N₂
 - 2. CH₂CHCN

3. CH₃CN
 4. CH₃OCN

Question ID : 9895807369
 Chosen Option : 3

Q.4
 2 लोसार उत्सव किस जनजाति के लोगों द्वारा मनाया जाता है?

- Ans 1. मोनपा
 2. खासी
 3. मुंडा
 4. कोडावा

Question ID : 9895807354
 Chosen Option : 1

Q.4
 3 धन नंद को हराकर मौर्य साम्राज्य की स्थापना किसने की?

- Ans 1. कुणाल
 2. अशोक
 3. चंद्रगुप्त
 4. बिंदुसार

Question ID : 9895807375
 Chosen Option : 3

Q.4
 4 2018 का यूएस ओपन पुरुष टेनिस किसने जीता?

- Ans 1. रफेल नाडाल
 2. एंडी मुरे
 3. नोवाक जोकोविच
 4. रोजर फेडरर

Question ID : 9895807357
 Chosen Option : 4

Q.4
 5 निम्न में से कौन सी नदी अरब सागर में जाकर गिरती है?

- Ans 1. कृष्णा
 2. माही
 3. रुशिकुल्या
 4. पेन्ना

Question ID : 9895807372
 Chosen Option : 4

Q.4
 6 जबड़ा किसका भाग है?

- Ans
- 1. बांह
 - 2. खोपड़ी
 - 3. हाथ
 - 4. श्रोणि चक्र

Question ID : 9895807371
Chosen Option : 2

Q.4
7 निम्न में से कौन सा गति का एक सही समीकरण है?

- Ans
- 1. $2s = (v - u)t$
 - 2. $2s = 2ut + at^2$
 - 3. $u = v + at^2$
 - 4. $v^2 + u^2 = 2as$

Question ID : 9895807367
Chosen Option : 3

Q.4
8 निम्न में से कौन लक्षद्वीप द्वीप समूह का दक्षिणतम भाग है?

- Ans
- 1. अमीनी
 - 2. कवरल्ली
 - 3. बित्रा
 - 4. मिनिकाँय

Question ID : 9895807373
Chosen Option : 2

Q.4
9 2018-19 के लिए साधारण किस्म के धान का न्यूनतम समर्थन मूल्य कितना निर्धारित किया गया है?

- Ans
- 1. ₹1,950 प्रति क्विंटल
 - 2. ₹5,150 प्रति क्विंटल
 - 3. ₹1,750 प्रति क्विंटल
 - 4. ₹2,430 प्रति क्विंटल

Question ID : 9895807363
Chosen Option : 3

Q.5
0 गैनिमीड अब तक हमारे सौर प्रणाली में सबसे बड़ा चंद्रमा है, वह किस उपग्रह की परिक्रमा करता है?

- Ans
- 1. शनि (सैटर्न)
 - 2. अरुण (यूरेनस)
 - 3. बृहस्पति (जूपिटर)
 - 4. वरुण (नेप्ट्यून)

Question ID : 9895807374

Chosen Option : 1

Q.5 दो बेलनाकार डिब्बों का आधार समान आकार का है। प्रत्येक का व्यास 14 cm है। एक डिब्बे की ऊंचाई 10 cm और दूसरे की 20 cm है। उनके आयतन का अनुपात ज्ञात कीजिए।

- Ans
1. 2 : 3
2. 1 : 2
3. 2 : 1
4. 3 : 2

Question ID : 9895807699

Chosen Option : 1

Q.5 दो प्राकृत संख्याओं के बीच का अनुपात 3: 4 है, वह सबसे छोटी संख्या ज्ञात करें, जिसे जोड़ने पर अनुपात 4: 5 हो जाए और संख्याओं का योग 27 हो जाए।

- Ans
1. 5
2. 6
3. 3
4. 4

Question ID : 9895807689

Chosen Option : 3

Q.5 आठ संख्याओं के एक सेट का माध्य 63 है। यदि संख्याओं में से एक को हटा दिया जाता है, तो शेष संख्याओं का माध्य 58 हो जाता है। हटाई गई संख्या का मान है:

- Ans
1. 89
2. 98
3. 78
4. 88

Question ID : 9895807684

Chosen Option : 2

Q.5 रामू ने 25% छूट पर एक नई मेज खरीदी। यदि उसे कोई छूट नहीं मिलती, तो रामू को ₹185 और देने पड़ते। रामू ने मेज के लिए कितना भुगतान किया?

- Ans
1. ₹555
2. ₹545
3. ₹535
4. ₹565

Question ID : 9895807683

Chosen Option : 1

Q.5 अरुण और आनंद की आयु का अनुपात 3:1 है। 5 साल बाद अरुण की आयु आनंद की आयु के दोगुने से 5 अधिक होगी। तो अरुण की वर्तमान आयु कितनी है?

- Ans
1. 40
2. 25
3. 30
4. 35

Question ID : 9895807690

Chosen Option : 3

Q.5 एक दुकानदार एक वस्तु के विक्रय मूल्य को 39 कम कर देता है, 10% का लाभ 3% की हानि में बदल जाता है, तो वस्तु का मूल मूल्य क्या है?

- Ans
- 1. ₹200
 - 2. ₹350
 - 3. ₹300
 - 4. ₹250

Question ID : 9895807686
Chosen Option : 4

Q.5 एक कार 4 घंटे में 120km/hr की गति से एक निश्चित दूरी तय करती है। यदि कार उसी दूरी को 3 घंटे 20 मिनट में तय करती है, तो कार की गति क्या होनी चाहिए।

- Ans
- 1. 124 km/hr
 - 2. 140 km/hr
 - 3. 144 km/hr
 - 4. 142 km/hr

Question ID : 9895807695
Chosen Option : 1

Q.5 एक परीक्षा में, एक छात्र को पास होने के लिए अधिकतम अंकों का 35% प्राप्त करना होता है। एक छात्र ने 70 अंक प्राप्त किए और 70 अंक से फेल हो गया। परीक्षा में अधिकतम अंक हैं:

- Ans
- 1. 200
 - 2. 300
 - 3. 400
 - 4. 500

Question ID : 9895807685
Chosen Option : 3

Q.5 A, B और C क्रमशः 12, 15 और 30 दिनों में एक कार्य कर सकते हैं। यदि वे एक साथ कार्य करते हैं, तो वह अनुपात ज्ञात करें, जिसमें राशि वितरित की जानी है।

- Ans
- 1. 4 : 5 : 2
 - 2. 5 : 4 : 2
 - 3. 2 : 5 : 4
 - 4. 2 : 4 : 5

Question ID : 9895807694
Chosen Option : 2

Q.6 वाराणसी की जनसंख्या 2,25,000 है। यदि वार्षिक जन्म दर और मृत्यु दर 9% और 7% हैं, तो 2 वर्ष बाद शहर की आबादी की गणना करें।

- Ans
- 1. 243090
 - 2. 432090
 - 3. 234090
 - 4. 423900

Question ID : 9895807692
Chosen Option : 3

Q.6

1 तीन व्यक्ति A, B और C क्रमशः 8, 15 और 20 मिनट में एक वृत्ताकार ट्रैक का एक फेरा पूरा कर सकते हैं। यदि वे एक निश्चित बिंदु से 8 AM पर एक साथ शुरू करते हैं, तो वे किस समय प्रारंभिक बिंदु पर फिर से एक साथ होंगे?

- Ans
- 1. 9 AM
 - 2. 12 Noon
 - 3. 10 AM
 - 4. 11 AM

Question ID : 9895807678

Chosen Option : 3

Q.6 एक आयत की लंबाई और चौड़ाई 8:3 के अनुपात में है। यदि परिमाप 132 cm है तो इसका क्षेत्रफल ज्ञात करें।

2

- Ans
- 1. 684 cm²
 - 2. 864 cm²
 - 3. 846 cm²
 - 4. 648 cm²

Question ID : 9895807698

Chosen Option : 4

Q.6 एक कार पहले घंटे में 60 km, दूसरे घंटे में 65 km, तीसरे घंटे में 70 km की की दूरी तय करती है, तो कार की औसत गति कितनी है?

3

- Ans
- 1. 62 km/hr
 - 2. 65 km/hr
 - 3. 56 km/hr
 - 4. 66 km/hr

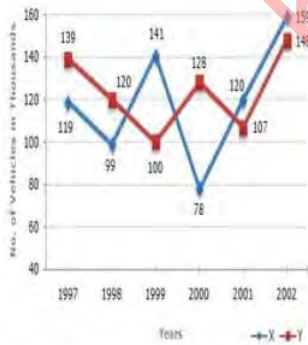
Question ID : 9895807696

Chosen Option : 1

Q.6 निम्न रेखीय ग्राफ का अध्ययन करें और इस पर आधारित प्रश्न का उत्तर दें।

4

वर्षों में दो कंपनियों द्वारा निर्मित वाहनों की संख्या (हजारों में)



निम्नलिखित में से किस वर्ष में, कंपनी X और Y के उत्पादन के बीच का अंतर दिए गए वर्षों में न्यूनतम था?

- Ans
- 1. 1999
 - 2. 1997
 - 3. 2002
 - 4. 2000

Question ID : 9895807702

Chosen Option : 4

Q.6 5 अमित ने ब्याज दर के समान वर्षों के लिए साधारण ब्याज पर एक साहूकार से ₹8,000 उधार लिए। यदि उसने ऋण अवधि के अंत में ब्याज के रूप में ₹2,000 का भुगतान किया, तो ब्याज दर क्या थी?

- Ans
- 1. 5%
 - 2. 8%
 - 3. 7%
 - 4. 6%

Question ID : 9895807691
Chosen Option : 2

Q.6 6 निम्न रेखीय ग्राफ का अध्ययन करें और इस पर आधारित प्रश्न का उत्तर दें।

वर्षों में दो कंपनियों द्वारा निर्मित वाहनों की संख्या (हजारों में)



1997 से 2000 तक दोनों कंपनियों के कुल उत्पादन में क्या अंतर है?

- Ans
- 1. 50000
 - 2. 40000
 - 3. 30000
 - 4. 60000

Question ID : 9895807700
Chosen Option : 2

Q.6 7 एक वृत्त की परिधि और व्यास के बीच का अंतर 60 cm है, तो त्रिज्या है:

- Ans
- 1. 12 cm
 - 2. 15 cm
 - 3. 14 cm
 - 4. 13 cm

Question ID : 9895807697
Chosen Option : 3

Q.6 8 सरलीकृत करें: $8 + 3 - \left(\frac{5}{2} \times \frac{1}{3}\right)$ of $\frac{12}{5} + \frac{4}{3} \times \frac{3}{8}$

- Ans
- 1. 19
 - 2. 9

3. 10

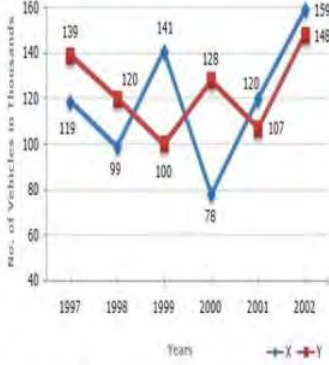
4. 9.5

Question ID : 9895807680

Chosen Option : 1

Q.6 निम्न रेखीय ग्राफ का अध्ययन करें और इस पर आधारित प्रश्न का उत्तर दें।

वर्षों में दो कंपनियों द्वारा निर्मित वाहनों की संख्या (हजारों में)



1998 में कंपनी Y का उत्पादन लगभग उसी वर्ष कंपनी X के उत्पादन का लगभग कितना प्रतिशत था।

Ans 1. 211.2%

2. 212.1%

3. 112.2%

4. 121.2%

Question ID : 9895807701

Chosen Option : 4

Q.7 2 संख्याओं के बीच का अनुपात 4:5 है और उनके वर्गों का योग 1025 है, तो संख्याएँ हैं:

Ans 1. 24 और 30

2. 20 और 25

3. 40 और 50

4. 8 और 10

Question ID : 9895807688

Chosen Option : 2

Q.7 सरलीकृत करें: $5 - 6.5 \div 13 + 2.3 \times 0.8 + 0.4$

Ans 1. 5.38

2. 7.38

3. 6.74

4. 6.83

Question ID : 9895807679

Chosen Option : 1

Q.7 A अकेले 12 दिनों में और B अकेले 16 दिनों में एक काम कर सकता है। उन्होंने ₹350 में काम करने की जिम्मेदारी ली। B को कितना मिलेगा?

Ans 1. ₹250

2. ₹150

3. ₹180

4. ₹200

Question ID : 9895807693

Chosen Option : 4

Q.7 मैंने ₹8,800 में एक वस्तु बेची और इस तरह 10% लाभ कमाया। 15% लाभ प्राप्त करने के लिए मुझे इसे कितनी राशि में बेचना चाहिए?

Ans 1. ₹9,500

2. ₹9,200

3. ₹9,400

4. ₹9,300

Question ID : 9895807687

Chosen Option : 1

Q.7 8 के पहले आठ गुणकों का औसत है:

Ans 1. 46

2. 36

3. 32

4. 72

Question ID : 9895807681

Chosen Option : 4

Q.7 'n' अवलोकनों का औसत 38 है, n अन्य अवलोकनों का औसत 42 है और शेष n अवलोकनों का औसत 55 है। सभी अवलोकनों का औसत है:

Ans 1. 55

2. 45

3. 40

4. 35

Question ID : 9895807682

Chosen Option : 2

Section : English Language

Q.1 Select the synonym of the given word.

FLIMSY

Ans 1. sturdy

2. general

3. Feeble

4. coarse

Question ID : 9895808023

Chosen Option : --

Q.2

Select the most appropriate option to substitute the underlined segment in the given sentence. If there is no need to substitute it, select No improvement.

My cousin won't be able to leave for Mumbai until his parents will have arrived.

- Ans 1. until his parents arrive
2. No Improvement
3. until his parents will arrive
4. until his parents won't arrive

Question ID : 9895808012

Chosen Option : --

Q.3 From the given options, identify the segment in the sentence which contains the grammatical error.

A clear and defined perception enabled her to dismissed the suggestion given by some people around her.

- Ans 1. clear and defined
2. some people around her.
3. enabled her to dismissed
4. suggestion given by

Question ID : 9895808009

Chosen Option : --

Q.4 Select the word which means the same as the group of words given.

A cold - blooded vertebrate typically living on land but breeding in water.

- Ans 1. Fish
2. Reptiles
3. Amphibians
4. Mammals

Question ID : 9895808029

Chosen Option : --

Q.5 Select the most appropriate option to substitute the underlined segment in the given sentence. If there is no need to substitute it, select No improvement.

Some people are so good that a mere looks at them pleases you a lot.

- Ans 1. a mere looks at them pleases you
2. a mere look at them pleases you
3. No Improvement
4. a mere look at their pleases you

Question ID : 9895808013

Chosen Option : --

Q.6 Select the option that means the same as the given idiom.

Apples and Oranges.

- Ans 1. Two similar situations with likely results
2. Two unlike things or people

- 3. People with similar approaches
- 4. People working together on a project

Question ID : 9895808028

Chosen Option : --

Q.7 Select the most appropriate option to fill in the blank.

Leadership _____ a rational approach to achieve success in any task.

- Ans
- 1. requiring
 - 2. requires
 - 3. required
 - 4. require

Question ID : 9895808015

Chosen Option : --

Q.8 Select the antonym of the given word.

PAUCITY

- Ans
- 1. Shortage
 - 2. Surplus
 - 3. Scarcity
 - 4. Availability

Question ID : 9895808026

Chosen Option : --

Q.9 Select the most appropriate word to fill in the blank.

Humans have a natural _____ to coordinate their movements with music.

- Ans
- 1. direction
 - 2. order
 - 3. disability
 - 4. tendency

Question ID : 9895808033

Chosen Option : --

Q.1₀ Select the correctly spelt word.

- Ans
- 1. Miscellaneous
 - 2. Miscellaneius
 - 3. Miscelleneous
 - 4. Miscellaneous

Question ID : 9895808031

Chosen Option : --

Q.1

- 1 Select the most appropriate option to substitute the underlined segment in the given sentence. If there is no need to substitute it, select No improvement.

He welcomed the audience with a heartfelt gratitude for their kind presence on the day of the social gathering in the college.

- Ans
- 1. for their kind present
 - 2. No Improvement
 - 3. for their kind presences
 - 4. of their kind presence

Question ID : 9895808014

Chosen Option : --

- Q.1
2 Select the synonym of the given word.

BREACH

- Ans
- 1. Violation
 - 2. Settlement
 - 3. Restriction
 - 4. Restraint

Question ID : 9895808024

Chosen Option : --

- Q.1
3 Select the antonym of the given word.

LOGICAL

- Ans
- 1. Sensible
 - 2. Contradictory
 - 3. Useful
 - 4. Practical

Question ID : 9895808025

Chosen Option : --

- Q.1
4 Select the word which means the same as the group of words given.

Incapable of failure or error.

- Ans
- 1. Infallible
 - 2. Irredeemable
 - 3. Incurable
 - 4. Incurable

Question ID : 9895808030

Chosen Option : --

Comprehension:

In the following passage some words have been deleted. Fill in the blanks with the help of the alternatives given.

The concept of sustainable development provides a (1) _____ for the integration of environmental policies and development strategies. Sustainable development (2) _____ to meet the needs and aspirations of the present without compromising the (3) _____ to meet those in the future. In other words, sustainable development is a (4) _____ of change in which the exploitation of resources, the direction of investments, technological development and institutional changes are all in harmony and (5) _____ both current and future potential to meet human needs and objectives.

SubQuestion No : 15

Q.1
5 Select the most appropriate option that will fill in the blank number 1.

- Ans
- 1. comparison
 - 2. provision
 - 3. framework
 - 4. figure

Question ID : 9895808018

Chosen Option : --

Comprehension:

In the following passage some words have been deleted. Fill in the blanks with the help of the alternatives given.

The concept of sustainable development provides a (1) _____ for the integration of environmental policies and development strategies. Sustainable development (2) _____ to meet the needs and aspirations of the present without compromising the (3) _____ to meet those in the future. In other words, sustainable development is a (4) _____ of change in which the exploitation of resources, the direction of investments, technological development and institutional changes are all in harmony and (5) _____ both current and future potential to meet human needs and objectives.

SubQuestion No : 16

Q.1
6 Select the most appropriate option that will fill in the blank number 2.

- Ans
- 1. seeks
 - 2. distracts
 - 3. diverts
 - 4. rejects

Question ID : 9895808019

Chosen Option : --

Comprehension:

In the following passage some words have been deleted. Fill in the blanks with the help of the alternatives given.

The concept of sustainable development provides a (1) _____ for the integration of environmental policies and development strategies. Sustainable development (2) _____ to meet the needs and aspirations of the present without compromising the (3) _____ to meet those in the future. In other words, sustainable development is a (4) _____ of change in which the exploitation of resources, the direction of investments, technological development and institutional changes are all in harmony and (5) _____ both current and future potential to meet human needs and objectives.

SubQuestion No : 17

Q.1
7 Select the most appropriate option that will fill in the blank number 3.

- Ans
- 1. production
 - 2. orientation
 - 3. operation
 - 4. invention

Question ID : 9895808020

Chosen Option : --

Comprehension:

In the following passage some words have been deleted. Fill in the blanks with the help of the alternatives given.

The concept of sustainable development provides a (1) _____ for the integration of environmental policies and development strategies. Sustainable development (2) _____ to meet the needs and aspirations of the present without compromising the (3) _____ to meet those in the future. In other words, sustainable development is a (4) _____ of change in which the exploitation of resources, the direction of investments, technological development and institutional changes are all in harmony and (5) _____ both current and future potential to meet human needs and objectives.

SubQuestion No : 18

Q.1
8 Select the most appropriate option that will fill in the blank number 4.

- Ans
- 1. permission
 - 2. process
 - 3. sample
 - 4. progress

Question ID : 9895808021

Chosen Option : --

Comprehension:

In the following passage some words have been deleted. Fill in the blanks with the help of the alternatives given.

The concept of sustainable development provides a (1) _____ for the integration of environmental policies and development strategies. Sustainable development (2) _____ to meet the needs and aspirations of the present without compromising the (3) _____ to meet those in the future. In other words, sustainable development is a (4) _____ of change in which the exploitation of resources, the direction of investments, technological development and institutional changes are all in harmony and (5) _____ both current and future potential to meet human needs and objectives.

SubQuestion No : 19

Q.1
9 Select the most appropriate option that will fill in the blank number 5.

- Ans
- 1. relieve
 - 2. dismiss
 - 3. resist
 - 4. enhance

Question ID : 9895808022

Chosen Option : --

Q.2
0 Select the most appropriate option to fill in the blank.

There is no prediction that _____ how fast dehydration can affect your general health.

- Ans
- 1. have show
 - 2. have been showing
 - 3. shows
 - 4. showed

Question ID : 9895808016

Chosen Option : --

Q.2
1 From the given options, identify the segment in the sentence which contains the grammatical error.

In the modern world, the computer is an amazing gift to mankind for doing two thing effortlessly.

- Ans
- 1. the computer is
 - 2. for doing two thing effortlessly.
 - 3. In the modern world
 - 4. an amazing gift

Question ID : 9895808010

Chosen Option : --

Q.2
2 Select the most appropriate word to fill in the blank.

There is a high degree of _____ from e - mail based to social -media based messaging globally.

- Ans
- 1. process
 - 2. transition
 - 3. method
 - 4. transaction

Question ID : 9895808034
Chosen Option : --

Q.2
3 Select the correctly spelt word.

- Ans
- 1. Refrigerator
 - 2. Refrigirator
 - 3. Refridgerator
 - 4. Refreegerator

Question ID : 9895808032
Chosen Option : --

Q.2 From the given options, identify the segment in the sentence which contains the grammatical error.

4 The researchers have discovered numerous sample of decorated sandstone, including chapel art depicting the Egyptian goddess.

- Ans
- 1. researchers have discovered
 - 2. including chapel art
 - 3. depicting the Egyptian goddess
 - 4. numerous sample of decorated sandstone

Question ID : 9895808011
Chosen Option : --

Q.2
5 Select the option that means the same as the given idiom.

To burn the midnight oil.

- Ans
- 1. To fight with someone at midnight
 - 2. To eat something at midnight
 - 3. To work till very late in the night
 - 4. To use oil for burning a lamp

Question ID : 9895808027
Chosen Option : --

Section : Hindi Language

Q.1 रिक्त स्थान को भरने के लिए उपयुक्त शब्द का चयन करें।

सैनिक देश की _____ करते हैं।

- Ans
- 1. वकालत
 - 2. रक्षा
 - 3. निर्माण
 - 4. दवा

Question ID : 9895806794
Chosen Option : 2

Q.2

दिए गए वाक्य का वह भाग जात करें जिसमें कोई त्रुटि है।

समूहों के लोगों की आपसी मेल-मिलाप के तौर-तरीकों का जटिल स्वरूप ही समाज है।

- Ans
- 1. आपसी मेल-मिलाप के तौर-तरीकों का
 - 2. जटिल स्वरूप ही
 - 3. समाज है।
 - 4. समूहों के लोगों की

Question ID : 9895806788
Chosen Option : 4

Q.3 दिए गए शब्द का विलोम चुनें।

निशा

- Ans
- 1. दिवा
 - 2. दशा
 - 3. दवा
 - 4. दिशा

Question ID : 9895806804
Chosen Option : 4

Q.4 दिए गए वाक्य में रेखांकित खंड को प्रतिस्थापित करने के लिए उपयुक्त विकल्प का चयन करें।

शीतल वायु चल रही है।

- Ans
- 1. सुगंधि
 - 2. अनल
 - 3. ठंडी
 - 4. सुरभि

Question ID : 9895806790
Chosen Option : 3

Q.5 निम्नलिखित में से उस विकल्प का चयन करें जो 'विशंकु होना' मुहावरे का अर्थ व्यक्त करता है।

- Ans
- 1. अधर में लटकना
 - 2. इधर-उधर होना
 - 3. सब जगह रहने वाला
 - 4. शंकालु होना

Question ID : 9895806808
Chosen Option : 1

Q.6

दिए गए शब्द के पर्यायवाची शब्द का चयन करें।

व्यवधान

- Ans
- 1. भ्रमण
 - 2. बाधा
 - 3. मिलन
 - 4. प्रीति

Question ID : 9895806805
Chosen Option : 2

Q.7 सही वर्तनी वाले शब्द का चयन करें।

- Ans
- 1. भुलककड़
 - 2. भुल्ककड़
 - 3. भूलककड़
 - 4. भुलककड़

Question ID : 9895806812
Chosen Option : 4

Q.8 रिक्त स्थान को भरने के लिए उपयुक्त शब्द का चयन करें।

बागों में _____ खिलते हैं।

- Ans
- 1. भौरै
 - 2. पक्षी
 - 3. फूल
 - 4. लड़के

Question ID : 9895806796
Chosen Option : 3

Q.9 दिए गए वाक्य का वह भाग ज्ञात करें जिसमें कोई त्रुटि है।

लोकतंत्र एक राजनीतिक व्यवस्था है जो लोगों को सम्मान मानती है।

- Ans
- 1. लोकतंत्र एक
 - 2. सम्मान मानती है।
 - 3. राजनीतिक व्यवस्था है
 - 4. जो लोगों को

Question ID : 9895806787
Chosen Option : 2

Q.1
0

दिए गए वाक्य का वह भाग जात करें जिसमें कोई त्रुटि है।

विज्ञान के युग ने समय की महत्व बहुत बढ़ा दिया है।

Ans

1. युग ने
2. समय की महत्व
3. बहुत बढ़ा दिया है।
4. विज्ञान के

Question ID : 9895806789
Chosen Option : 2

Q.1 दिए गए शब्द के पर्यायवाची शब्द का चयन करें।

अवगुण

Ans

1. प्रेम
2. दोष
3. द्वेष
4. गुण

Question ID : 9895806806
Chosen Option : 2

Q.1 रिक्त स्थान को भरने के लिए उपयुक्त शब्द का चयन करें।

बाहर लकड़ी के _____ पड़े हुए हैं।

Ans

1. झुंड
2. गड्ढर
3. मलबे
4. समूह

Question ID : 9895806795
Chosen Option : 2

Q.1 सही वर्तनी वाले शब्द का चयन करें।

Ans

1. माखनचौर
2. माकनचोर
3. मखनचोर
4. माखनचोर

Question ID : 9895806811
Chosen Option : 4

Comprehension:

निम्नलिखित गद्यांश के रिक्त स्थानों की पूर्ति गद्यांश के नीचे दिए गए प्रश्नों के अनुसार कीजिए-

प्रदूषण आज के समय का सबसे बड़ा _____ (1) है। प्रदूषण के बढ़ने से धरती पर बहुत सी _____ (2) पैदा हो गयीं जिसे समय रहते न _____ (3) गया तो वो दिन दूर नहीं जब धीरे- धीरे सब खतम हो जायेगा। प्रदूषण के तत्त्व _____ (4) द्वारा उत्पन्न किये गये पदार्थ या वेस्ट मटेरियल होते हैं जो प्राकृतिक संसाधन जैसे कि वायु, जल और भूमि आदि को प्रदूषित करते हैं। प्रदूषण जहरीली गैस, कीटनाशक, शाकनाशी, ध्वनि, कार्बनिक मिश्रण, रेडियोधर्मी _____ (5) हो सकते हैं।

SubQuestion No : 14

Q.1
4 गद्यांश में संकेतित रिक्त स्थान (1) के लिए उपयुक्त शब्द होगा।

- Ans
- 1. अभिशाप
 - 2. सफलता
 - 3. वरदान
 - 4. कर्तव्य

Question ID : 9895806798
Chosen Option : 1

Comprehension:

निम्नलिखित गद्यांश के रिक्त स्थानों की पूर्ति गद्यांश के नीचे दिए गए प्रश्नों के अनुसार कीजिए-

प्रदूषण आज के समय का सबसे बड़ा _____ (1) है। प्रदूषण के बढ़ने से धरती पर बहुत सी _____ (2) पैदा हो गयीं जिसे समय रहते न _____ (3) गया तो वो दिन दूर नहीं जब धीरे- धीरे सब खतम हो जायेगा। प्रदूषण के तत्त्व _____ (4) द्वारा उत्पन्न किये गये पदार्थ या वेस्ट मटेरियल होते हैं जो प्राकृतिक संसाधन जैसे कि वायु, जल और भूमि आदि को प्रदूषित करते हैं। प्रदूषण जहरीली गैस, कीटनाशक, शाकनाशी, ध्वनि, कार्बनिक मिश्रण, रेडियोधर्मी _____ (5) हो सकते हैं।

SubQuestion No : 15

Q.1
5 गद्यांश में संकेतित रिक्त स्थान (2) के लिए उपयुक्त शब्द होगा।

- Ans
- 1. घटनाएं
 - 2. समस्याएं

3. कथाएं
4. उम्मीदें

Question ID : 9895806799
Chosen Option : 2

Comprehension:

निम्नलिखित गद्यांश के रिक्त स्थानों की पूर्ति गद्यांश के नीचे दिए गए प्रश्नों के अनुसार कीजिए-

प्रदूषण आज के समय का सबसे बड़ा _____ (1) है। प्रदूषण के बढ़ने से धरती पर बहुत सी _____ (2) पैदा हो गयीं जिसे समय रहते न _____ (3) गया तो वो दिन दूर नहीं जब धीरे- धीरे सब खतम हो जायेगा। प्रदूषण के तत्त्व _____ (4) द्वारा उत्पन्न किये गये पदार्थ या वेस्ट मटेरियल होते हैं जो प्राकृतिक संसाधन जैसे कि वायु, जल और भूमि आदि को प्रदूषित करते हैं। प्रदूषण जहरीली गैस, कीटनाशक, शाकनाशी, ध्वनि, कार्बनिक मिश्रण, रेडियोधर्मी _____ (5) हो सकते हैं।

SubQuestion No : 16

Q.1
6 गद्यांश में संकेतित रिक्त स्थान (3) के लिए उपयुक्त शब्द होगा।

- Ans 1. रोका
2. बढ़ाया
3. लगाया
4. उठाया

Question ID : 9895806800
Chosen Option : 1

Comprehension:

निम्नलिखित गद्यांश के रिक्त स्थानों की पूर्ति गद्यांश के नीचे दिए गए प्रश्नों के अनुसार कीजिए-

प्रदूषण आज के समय का सबसे बड़ा _____ (1) है। प्रदूषण के बढ़ने से धरती पर बहुत सी _____ (2) पैदा हो गयीं जिसे समय रहते न _____ (3) गया तो वो दिन दूर नहीं जब धीरे- धीरे सब खतम हो जायेगा। प्रदूषण के तत्त्व _____ (4) द्वारा उत्पन्न किये गये पदार्थ या वेस्ट मटेरियल होते हैं जो प्राकृतिक संसाधन जैसे कि वायु, जल और भूमि आदि को प्रदूषित करते हैं। प्रदूषण जहरीली गैस, कीटनाशक, शाकनाशी, ध्वनि, कार्बनिक मिश्रण, रेडियोधर्मी _____ (5) हो सकते हैं।

SubQuestion No : 17

Q.1
7

गद्यांश में संकेतित रिक्त स्थान (4) के लिए
उपयुक्त शब्द होगा।

- Ans
- 1. पेड़ों
 - 2. नदियों
 - 3. मनुष्यों
 - 4. पहाड़ों

Question ID : 9895806801
Chosen Option : 3

Comprehension:

निम्नलिखित गद्यांश के रिक्त स्थानों की पूर्ति गद्यांश के नीचे दिए गए प्रश्नों के अनुसार कीजिए-

प्रदूषण आज के समय का सबसे बड़ा _____ (1) है। प्रदूषण के बढ़ने से धरती पर बहुत सी _____ (2) पैदा हो गयीं जिसे समय रहते न _____ (3) गया तो वो दिन दूर नहीं जब धीरे- धीरे सब खतम हो जायेगा। प्रदूषण के तत्त्व _____ (4) द्वारा उत्पन्न किये गये पदार्थ या वेस्ट मटेरियल होते हैं जो प्राकृतिक संसाधन जैसे कि वायु, जल और भूमि आदि को प्रदूषित करते हैं। प्रदूषण जहरीली गैस, कीटनाशक, शाकनाशी, ध्वनि, कार्बनिक मिश्रण, रेडियोधर्मी _____ (5) हो सकते हैं।

SubQuestion No : 18

Q.1
8 गद्यांश में संकेतित रिक्त स्थान (5) के लिए
उपयुक्त शब्द होगा।

- Ans
- 1. पदार्थ
 - 2. विचार
 - 3. हथियार
 - 4. यथार्थ

Question ID : 9895806802
Chosen Option : 1

Q.1
9 दिए गए वाक्य में रेखांकित खंड को प्रतिस्थापित करने के लिए उपयुक्त विकल्प का चयन करें।

अर्जुन के षोडश वर्षीय पुत्र अभिमन्यु ने चक्रव्यूह तोड़ा।

- Ans
- 1. छह
 - 2. जवान
 - 3. वीर
 - 4. सोलह

Question ID : 9895806791

Chosen Option : 4

Q.2
0 दिए गए शब्द का विलोम चुनें।

असफल

- Ans 1. सफल
 2. विफल
 3. अफल
 4. सरल

Question ID : 9895806803
Chosen Option : 2

Q.2
1 दिये गये वाक्यांश के लिए एक शब्द दीजिये।

जिसका कोई आधार न हो

- Ans 1. निराधार
 2. साधार
 3. मूलाधार
 4. मूसलाधार

Question ID : 9895806809
Chosen Option : 1

Q.2
2 रिक्त स्थान को भरने के लिए उपयुक्त शब्द का चयन करें।

पुस्तक का _____ फट गया।

- Ans 1. पन्ना
 2. अक्षर
 3. रंग
 4. व्याकरण

Question ID : 9895806793
Chosen Option : 1

Q.2
3 दिये गये वाक्यांश के लिए एक शब्द दीजिये।

इतिहास से संबंधित

- Ans 1. ऐतिहासिक
 2. सैद्धांतिक
 3. इतिहासिक
 4. पौराणिक

Question ID : 9895806810
Chosen Option : 1

Q.2
4 निम्नलिखित में से उस विकल्प का चयन करें जो 'हरी झंडी दिखाना' मुहावरे का अर्थ व्यक्त करता है।

- Ans
- 1. पीछे चलने का संकेत देना
 - 2. आगे बढ़ने का संकेत देना
 - 3. हरियाली होने का संकेत होना
 - 4. पीछे होने का संकेत देना

Question ID : 9895806807
Chosen Option : 2

Q.2
5 दिए गए वाक्य में रेखांकित खंड को प्रतिस्थापित करने के लिए उपयुक्त विकल्प का चयन करें।

वह पिछले वर्ष हरिद्वार गया था।

- Ans
- 1. आगामी
 - 2. गत
 - 3. भावी
 - 4. गया

Question ID : 9895806792
Chosen Option : 2

KD Job Updates

Constable (GD) in CAPFs, NIA, SSF and Rifleman (GD) in Assam Rifles Examination, 2018

Roll No. :	
Registration No.	
Name :	
Exam Venue :	
Exam Time :	12:30 PM - 2:00 PM
Exam Date :	03/03/2019

Section : General Section

Q.1 A, B तथा C शिक्षित हैं। A, C तथा D परिश्रमी हैं। C, D और E नौकरी शुदा हैं। A, B, D तथा E विनम हैं। उसका पता लगाइए जो शिक्षित, परिश्रमी तथा विनम है, परन्तु बेरोजगार है।

- Ans 1. A
 2. E
 3. B
 4. C

Question ID : 9895808324
Chosen Option : 1

Q.2 नीचे दिए गए कथनों के बाद दो निष्कर्ष I और II दिए गए हैं। यह मानते हुए कि कथनों में दी गई जानकारी सत्य है, भले ही वह सर्वज्ञात तथ्यों से भिन्न प्रतीत होती हो और यह निर्णय करें कि कौन सा/से निष्कर्ष तार्किक और निश्चित रूप से कथन में दी गई जानकारी का अनुसरण करता है/करते हैं।

कथन:

सभी फल, संतरे हैं।
कुछ फल, अंगूर हैं।
सभी अंगूर, चेरी हैं।

निष्कर्ष:

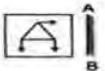
- I. सभी अंगूर, संतरे हैं।
II. सभी चेरी, फल हैं।

- Ans 1. केवल निष्कर्ष II सत्य है।
 2. न ही निष्कर्ष I न II सत्य है।
 3. या निष्कर्ष I या II सत्य है।
 4. केवल निष्कर्ष I सत्य है।


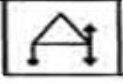
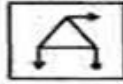
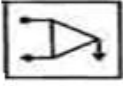
Question ID : 9895808325
Chosen Option : 2

Q.3 उस विकल्प का चयन करें जो दर्पण के दाएँ ओर रखे जाने पर दी गई आकृति की दर्पण छवि से सर्वाधिक मेल खाता है।

प्रश्न आकृति:



Ans

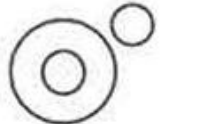
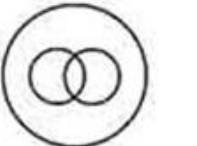


- ✓ 1. 
- ✗ 2. 
- ✗ 3. 
- ✗ 4. 

Question ID : 9895808336
Chosen Option : 3

Q.4 वेन आरेख का चयन करें जो दिए गए तीन वर्गों के बीच के संबंध को सर्वोत्तम दर्शाता है।

पांच का वर्ग, तीन का घन, विषम संख्या

Ans

- ✗ 1. 
- ✗ 2. 
- ✗ 3. 
- ✓ 4. 

Question ID : 9895808338
Chosen Option : 4

Q.5 यदि L को 14 लिखते हैं, तो GOA को कैसे लिखा जाएगा?

Ans

- ✗ 1. 22
- ✗ 2. 21
- ✓ 3. 29
- ✗ 4. 26

Question ID : 9895808321
Chosen Option : 3

Q.6

नीचे दिए गए कथनों के बाद दो निष्कर्ष I और II दिए गए हैं। यह मानते हुए कि कथनों में दी गई जानकारी सत्य है, भले ही वह सर्वज्ञात तथ्यों से भिन्न प्रतीत होती हो और यह निर्णय करें कि कौन सा/से निष्कर्ष तार्किक और निश्चित रूप से कथन में दी गई जानकारी का अनुसरण करता है/करते हैं।

कथन:

सभी झींगुर, पक्षी हैं।
कोई पक्षी, तितली नहीं है।

निष्कर्ष:

- I. सभी तितलियां, झींगुर हैं।
- II. कुछ झींगुर, तितलियां हैं।


Ans

1. केवल निष्कर्ष I अनुसरण करता है।
2. केवल निष्कर्ष II अनुसरण करता है।
3. या तो निष्कर्ष I या II अनुसरण करता है।
4. न तो निष्कर्ष I और न ही II अनुसरण करता है।

Question ID : 9895808326
Chosen Option : 3

Q.7 वह विकल्प चुनें जो दी गई आकृति श्रृंखला को पूरा करता है।

प्रश्न आकृति:



Ans


- 1.
- 2.
- 3.
- 4.

Question ID : 9895808333
Chosen Option : 2

Q.8

उस विकल्प आकृति का चयन करें, जिसमें प्रश्न आकृति छिपी हुई/ अंतर्निहित है।

प्रश्न आकृति:



Ans

- 1.
- 2.
- 3.
- 4.

Question ID : 9895808335

Chosen Option : 2

Q.9 X, Y, Z, P, Q और R एक पंक्ति में उत्तर की ओर मुख करके बैठे हैं। X, Y और P का पड़ोसी है। Q, Z और R का पड़ोसी है। P, X के दाएँ ओर है और P और Z एक दूसरे के निकटतम पड़ोसी हैं।

X और Q के मध्य कितने सदस्य हैं?

- Ans 1. एक
2. तीन
3. चार
4. दो

Question ID : 9895808323

Chosen Option : 4

Q.1 चार अक्षर समूह दिए गए हैं, जिनमें से तीन किसी तरह से समान हैं, जबकि एक अलग है। असंगत अक्षर समूह का चयन करें।

- Ans 1. NORS
2. BCFG
3. EGFC
4. WXAB

Question ID : 9895808315

Chosen Option : 2

Q.1 उस विकल्प का चयन करें जो तीसरे पद से उसी तरह संबंधित है जिस प्रकार पहला पद दूसरे पद से संबंधित है।

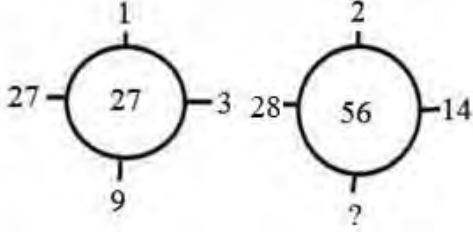
भोजन : रसोइया :: किताब : ?

- Ans 1. रचयिता

2. वैज्ञानिक
 3. निर्देशक
 4. लेखक

Question ID : 9895808318
 Chosen Option : 4

Q.1 2 दिए गए विकल्पों में से लुप्त संख्या ज्ञात करें।



- Ans 1. 6
 2. 5
 3. 3
 4. 4

Question ID : 9895808331
 Chosen Option : 4

Q.1 3 एक पैटर्न के साथ एक वर्ग पारदर्शी शीट दी गई है। चार विकल्पों में से यह पता करें कि जब डॉट लाइन पर पारदर्शी शीट मुड़ी होती है तो पैटर्न कैसे दिखाई देगा।

प्रश्न आकृति:



- Ans 1.
 2.
 3.
 4.

Question ID : 9895808337
 Chosen Option : 2

Q.1 4 उस विकल्प का चयन करें जो सही रूप में रिक्त स्थान की पूर्ति करते हुए श्रृंखला को पूरा करें।

BDF, CFI, DHL, ?

- Ans 1. FNO
 2. EJO
 3. FJO

4. EOJ

Question ID : 9895808314

Chosen Option : 2

Q.1 चार शब्द दिए गए हैं, जिनमें से तीन किसी तरह से समान हैं, जबकि एक अलग है। असंगत शब्द का चयन करें।

5

Ans

1. बैंक कार्ड

2. क्रेडिट कार्ड

3. डेबिट कार्ड

4. मेमोरी कार्ड

Question ID : 9895808316

Chosen Option : 1

Q.1 चार विकल्प दिए गए हैं, जिनमें से तीन किसी तरह से समान हैं, जबकि एक अलग है। असंगत का चयन करें।

6

Ans

1. 24-122

2. 72-170

3. 36-128

4. 88-186

Question ID : 9895808330

Chosen Option : 3

Q.1 उस विकल्प का चयन करें जो तीसरे पद से उसी तरह संबंधित है जिस प्रकार पहला पद दूसरे पद से संबंधित है।

7

FGHM : GHIN :: FKDS : ?

Ans

1. GHET

2. GLET

3. EFGL

4. KGSV

Question ID : 9895808319

Chosen Option : 2

Q.1 निम्नलिखित में से कौन सी उत्तर आकृति दी गई आकृति को पूरा करेगी?

8

प्रश्न आकृति:



Ans





Question ID : 9895808334
Chosen Option : 2

Q.1
9 पाँच बन्दर A, B, C, D, और E, पेड़ की एक शाखा पर बैठे हैं।
C, D से अगला बैठा है। D, E के साथ नहीं बैठा है। E, शाखा के बाएँ छोर पर बैठा है। C दाएँ से दूसरे स्थान पर है। A, B के ठीक दाएँ ओर है और B, E के दाएँ ओर है। A और C साथ में बैठे हैं।
A किस स्थान पर बैठा है?

- Ans
- 1. E और D के बीच
 - 2. C और F के बीच
 - 3. B और C के बीच
 - 4. D और C के बीच

Question ID : 9895808322
Chosen Option : 3

Q.2
0 उस विकल्प का चयन करें जो तीसरे पद से उसी तरह संबंधित है जिस प्रकार पहला पद दूसरे पद से संबंधित है।

$$\frac{1}{14} : \frac{1}{196} :: \frac{1}{16} : ?$$

- Ans
- 1. $\frac{1}{225}$
 - 2. $\frac{1}{144}$
 - 3. $\frac{1}{256}$
 - 4. $\frac{1}{289}$

Question ID : 9895808329
Chosen Option : 3

Q.2
1 उस विकल्प का चयन करें जो सही रूप में रिक्त स्थान की पूर्ति करते हुए श्रृंखला को पूरा करें।

2, 4, 8, 14, 22, _____

- Ans
- 1. 33
 - 2. 31
 - 3. 35
 - 4. 32

Question ID : 9895808328
Chosen Option : 4

Q.2

2 एक निश्चित कूट भाषा में, SYSTEM को METSYS के रूप में कूटबद्ध किया जाता है। उस कूट में NORMS को कैसे कूटबद्ध किया जाता है?

- Ans
- 1. SRMON
 - 2. SSRMO
 - 3. SMRON
 - 4. SMNOR

Question ID : 9895808320

Chosen Option : 3

Q.2
3 उस विकल्प का चयन करें जो सही रूप में रिक्त स्थान की पूर्ति करते हुए श्रृंखला को पूरा करें।

225, 269, 324, 390, _____

- Ans
- 1. 467
 - 2. 567
 - 3. 466
 - 4. 480

Question ID : 9895808327

Chosen Option : 3

Q.2
4 दिए गए विकल्पों में से संबंधित शब्द युगल का चयन करें।

शीतकाल :: कोहरा :: _____ :: _____

- Ans
- 1. मौसम : ठंडा
 - 2. बाढ़ : रेगिस्तान
 - 3. ग्रीष्मकाल : आर्द्रता
 - 4. वर्षा : वृक्ष

Question ID : 9895808317

Chosen Option : 4

Q.2
5 यदि + का अर्थ '-' है, '-' का अर्थ '+' है, × का अर्थ '+' है, और '+' का अर्थ '×' है, तो:

256 - 4 ÷ 2 × 128 =

- Ans
- 1. 262
 - 2. 242
 - 3. 264
 - 4. 256

Question ID : 9895808332

Chosen Option : 4

Q.2
6 भारतीय संविधान में अवशिष्ट शक्तियों का विचार किस देश के संविधान से प्रेरित है?

- Ans
- 1. कनाडा
 - 2. ऑस्ट्रेलिया

3. यूनाइटेड किंगडम

4. आयरलैंड

Question ID : 9895807389
Chosen Option : 1

Q.2
7 गराड़ी नृत्य की शैली किस राज्य में लोकप्रिय है?

Ans 1. महाराष्ट्र

2. पंजाब

3. मध्य प्रदेश

4. पुडुचेरी

Question ID : 9895807380
Chosen Option : 3

Q.2
8 दक्षिण भारतीय वंश, विजयनगर साम्राज्य किस राजा द्वारा स्थापित किया गया था?

Ans 1. नंदीवर्धन

2. हरिहर I

3. बिंदुसार

4. दंतिदुर्ग

Question ID : 9895807400
Chosen Option : 3

Q.2
9 कौन सी पर्वत श्रेणी में दुनिया की दूसरी सबसे ऊंची चोटी K2 स्थित है?

Ans 1. पीर पंजाल पर्वतमाला

2. धौलाधार पर्वतमाला

3. जंस्कार पर्वतमाला

4. ईस्ट काराकोरम पर्वतमाला

Question ID : 9895807398
Chosen Option : 1

Q.3
0 निम्न में से कौन सी नदी गंगा की एक सहायक नदी नहीं है?

Ans 1. बेतवा

2. चंबल

3. भीम

4. गोमती

Question ID : 9895807397
Chosen Option : 3

Q.3
1 M' द्रव्यमान और 'R' त्रिज्या वाले एक ठोस गोले का इसके केंद्र से गुजरने वाले अक्ष पर जड़त्वाघूर्ण कितना होगा?

- Ans 1. $2MR/5$
 2. $2MR^2/5$
 3. $5MR^2/2$
 4. $5MR/2$

Question ID : 9895807392
 Chosen Option : 2

Q.3
 2 किन ग्रहों की कक्षाओं के मध्य क्षुद्रग्रहों की बेल्ट है?

- Ans 1. बृहस्पति और शनि
 2. यूरेनस और नेपचून
 3. मंगल और बृहस्पति
 4. शनि और यूरेनस

Question ID : 9895807399
 Chosen Option : 2

Q.3
 3 उपसर्ग ' _____ ' 10^{18} के अपवर्तक के बराबर है।

- Ans 1. atto
 2. exa
 3. femto
 4. peta

Question ID : 9895807393
 Chosen Option : 2

Q.3
 4 लोन फॉक्स डांसिंग: माय ऑटोबायोग्राफी किसकी आत्मकथा है?

- Ans 1. रस्किन बांड
 2. खुशवंत सिंह
 3. शरदिंदु बंदोपाध्याय
 4. डेविड दविदर

Question ID : 9895807384
 Chosen Option : 1

Q.3
 5 21 दिसंबर, 2018 को भारत का विदेशी मुद्रा भंडार कितना था?

- Ans 1. US\$ 491.72 बिलियन
 2. US\$ 524.17 बिलियन
 3. US\$ 393.29 बिलियन
 4. US\$ 677.85 बिलियन

Question ID : 9895807386
 Chosen Option : 2

Q.3
6 दादासाहेब फाल्के पुरस्कार पाने वाले प्रथम व्यक्ति का नाम बताइए।

- Ans
- 1. देविका रानी
 - 2. बोमीरेड्डी नरसिम्हा रेड्डी
 - 3. पंकज मलिक
 - 4. पृथ्वीराज कपूर

Question ID : 9895807383
Chosen Option : 2

Q.3
7 1942 के भारत छोड़ो आंदोलन के वक्त गोवालिया टैंक मैदान में भारत का राष्ट्रीय ध्वज फहराने वाला व्यक्ति कौन था?

- Ans
- 1. अल्लूरी सीताराम राजू
 - 2. मातंगिनी हाजरा
 - 3. शंभू दत्त शर्मा
 - 4. अरुणा आसफ अली

Question ID : 9895807401
Chosen Option : 3

Q.3
8 आवर्त सारणी के 6ठे आवर्त और समूह IVA में कौन सा तत्व रखा गया है?

- Ans
- 1. लीड (क्रमांक 82 पर)
 - 2. बेरियम (क्रमांक 56 पर)
 - 3. टेलुरियम (क्रमांक 52 पर)
 - 4. स्ट्रॉटियम (क्रमांक 38 पर)

Question ID : 9895807394
Chosen Option : 3

Q.3
9 मिस वर्ल्ड का खिताब जीतने वाली पहली भारतीय और पहली एशियाई महिला का नाम बताइए।

- Ans
- 1. तारा एनी फॉसेका
 - 2. जीनत अमान
 - 3. रीता फारिया
 - 4. डायना हेडन

Question ID : 9895807385
Chosen Option : 3

Q.4
0 किस अधिनियम ने ईस्ट इंडिया कंपनी के सिविल सेवक की भर्ती के लिए आधार के रूप में खुली प्रतियोगिता की व्यवस्था लागू की, जिसका अर्थ था कि भारतीय सिविल सेवा सबके लिए खुल गई?

- Ans
- 1. 1853 का चार्टर एक्ट
 - 2. 1858 का भारत सरकार अधिनियम
 - 3. पिट्स इंडिया एक्ट

4. रेगुलेटिंग एक्ट 1773

Question ID : 9895807391
Chosen Option : 2

Q.4
1 कौन सी मिश्रधातु में लीड और टिन होते हैं?

- Ans
- 1. जर्मन सिल्वर
 - 2. गन मेटल
 - 3. बेल मेटल
 - 4. सोल्डर

Question ID : 9895807395
Chosen Option : 1

Q.4
2 326 BC में सिकंदर और राजा पोरस के बीच युद्ध किस नदी के किनारे पर लड़ा गया था?

- Ans
- 1. यमुना
 - 2. सतलज
 - 3. चंबल
 - 4. झेलम

Question ID : 9895807402
Chosen Option : 3

Q.4
3 व्लाडिं वर्ल्ड कप, 2018 का फाइनल जीतने के लिए भारत ने किस देश की क्रिकेट टीम को हराया?

- Ans
- 1. पाकिस्तान
 - 2. दक्षिण अफ्रीका
 - 3. न्यूजीलैंड
 - 4. इंग्लैंड

Question ID : 9895807382
Chosen Option : 1

Q.4
4 कौन सी लिपि कन्नड़ और तेलुगू की लिपि के तौर पर विकसित हुई?

- Ans
- 1. ब्राहमी
 - 2. शारदा
 - 3. ग्रंथ
 - 4. कदंब

Question ID : 9895807378
Chosen Option : 1

Q.4
5 2018 प्रीमियर लीग फाइनल किस टीम ने जीता?

- Ans
- 1. किंग्स XI पंजाब

2. राजस्थान राँयल्स
3. कोलकाता नाइट राइडर्स
4. चेन्नई सुपर किंग्स

Question ID : 9895807381
Chosen Option : 4

Q.4
6 निम्नलिखित में से कौन सा एक संवैधानिक निकाय है?

- Ans 1. लोकपाल और लोकायुक्त
2. राज्य सूचना आयोग
3. नियंत्रक एवं महा लेखापरीक्षक
4. केन्द्रीय सतर्कता आयोग

Question ID : 9895807390
Chosen Option : 3

Q.4
7 कौन सी मांसपेशी कनपटी की हड्डी को जबड़े से जोड़ती है?

- Ans 1. मेसेटर
2. डेल्टॉयड
3. सोलियस
4. पेक्टोरेलिस मेजर

Question ID : 9895807396
Chosen Option : 3

Q.4
8 लोक कला, नृत्य, संगीत और नाटक की वह शैली कौन सी है जो केरल में ओणम त्यौहार के दौरान बाघ के शिकार की कहानी प्रस्तुत करती है?

- Ans 1. मड़ई
2. मिंजर
3. करमा
4. पुली काली

Question ID : 9895807379
Chosen Option : 3

Q.4
9 2018-19 के लिए मडुवा का न्यूनतम समर्थन मूल्य कितना है?

- Ans 1. ₹2,897 प्रति क्विंटल
2. ₹1,950 प्रति क्विंटल
3. ₹2,430 प्रति क्विंटल
4. ₹5,150 प्रति क्विंटल

Question ID : 9895807388
Chosen Option : 3

Q.5 0 केंद्रीय बजट 2018 में स्वयं-सहायता समूहों को दिए जाने वाले ऋण की राशि कितनी बढ़ाई गई है?

- Ans
1. ₹55,000 करोड़
2. ₹35,000 करोड़
3. ₹75,000 करोड़
4. ₹15,000 करोड़

Question ID : 9895807387
Chosen Option : 3

Q.5 1 निम्न तालिका का अध्ययन करें और प्रश्न का उत्तर दें।

विभिन्न राज्यों में निम्न वर्षों में एक प्रतियोगी परीक्षा में उपस्थित और अर्हताप्राप्त उम्मीदवारों की संख्या

राज्य	वर्ष									
	1997		1998		1999		2000		2001	
	App.	Qual.	App.	Qual.	App.	Qual.	App.	Qual.	App.	Qual.
M	5200	720	8500	980	7400	850	6800	775	9500	1125
N	7500	840	9200	1050	8450	920	9200	980	8800	1020
P	6400	780	8800	1020	7800	890	8750	1010	9750	1250
Q	8100	950	9500	1240	8700	980	9700	1200	8950	995
R	7800	870	7600	940	9800	1350	7600	945	7990	885

1998 में सभी पाँच राज्यों के बीच उपस्थित उम्मीदवारों की कुल संख्या, अर्हताप्राप्त उम्मीदवारों की कुल संख्या का कितने प्रतिशत है?

- Ans
1. 9.99%
2. 12.99%
3. 10.99%
4. 11.99%

Question ID : 9895807727
Chosen Option : 3

Q.5 2 एक आदमी 5 घंटे में 13 km धारा-प्रतिकूल (अपस्ट्रीम) और 5 घंटे में 28 km धारा-अनुकूल (डाउनस्ट्रीम) नौका विहार करता है, तो धारा की गति ज्ञात कीजिए।

- Ans
1. 1.6 km/hr
2. 1.7 km/hr
3. 1.5 km/hr
4. 1.4 km/hr

Question ID : 9895807721
Chosen Option : 2

Q.5 3

निम्न तालिका का अध्ययन करें और प्रश्न का उत्तर दें।

विभिन्न राज्यों में निम्न वर्षों में एक प्रतियोगी परीक्षा में उपस्थित और अर्हताप्राप्त उम्मीदवारों की संख्या

राज्य	वर्ष									
	1997		1998		1999		2000		2001	
	App.	Qual.	App.	Qual.	App.	Qual.	App.	Qual.	App.	Qual.
M	5200	720	8500	980	7400	850	6800	775	9500	1125
N	7500	840	9200	1050	8450	920	9200	980	8800	1020
P	6400	780	8800	1020	7800	890	8750	1010	9750	1250
Q	8100	950	9500	1240	8700	980	9700	1200	8950	995
R	7800	870	7600	940	9800	1350	7600	945	7990	885

दिए गए किस वर्ष में, राज्य N से उपस्थित उम्मीदवारों की संख्या में अर्हताप्राप्त उम्मीदवार का अधिकतम प्रतिशत है?

- Ans
- 1. 1999
 - 2. 1997
 - 3. 1998
 - 4. 2001

Question ID : 9895807726
Chosen Option : 3

Q.5 3 वर्ष पहले, बँगलोर की जनसंख्या 3 लाख थी। यदि यह संख्या क्रमिक 3 वर्षों के दौरान क्रमशः 2%, 5% और 4% की दर से बढ़ती है, तो वर्तमान जनसंख्या है:

- Ans
- 1. 3,53,412
 - 2. 3,35,214
 - 3. 3,34,152
 - 4. 3,43,152

Question ID : 9895807717
Chosen Option : 3

Q.5 ब्लैकबेरी ने शर्ट पर 20% की छूट की घोषणा की। कुमार दुकान पर गया। वह छूट में ₹ 400 बचाना चाहता था।
5 ऐसा करने के लिए उसे कितने शर्ट खरीदने चाहिए, यदि प्रत्येक शर्ट की कीमत ₹500 है?

- Ans
- 1. 4
 - 2. 5
 - 3. 3
 - 4. 6

Question ID : 9895807708
Chosen Option : 3

Q.5 दो संख्याओं का योग उनके बीच अंतर का 4 गुना है। यदि छोटी संख्या 45 है, तो बड़ी संख्या ज्ञात कीजिए।
6

- Ans
- 1. 65
 - 2. 85
 - 3. 80
 - 4. 75

Question ID : 9895807715
Chosen Option : 3

Q.5 44cm × 28cm आकार के कागज की एक आयताकार शीट,को 44 cm लंबाई में घुमाया जाता है और एक बेलन (सिलेंडर) बनता है। बने हुए बेलन का आयतन ज्ञात कीजिए।

- Ans
- 1. 4123 cm³
 - 2. 4132 cm³
 - 3. 4312 cm³
 - 4. 4131 cm³

Question ID : 9895807722
Chosen Option : 3

Q.5 सरलीकृत करें: $\frac{18 + \frac{3}{2} \text{ of } 12 - 4}{28 - \frac{3}{2} \text{ of } (12 - 4)}$

- Ans
- 1. 5
 - 2. 2
 - 3. 4
 - 4. 3

Question ID : 9895807704
Chosen Option : 2

Q.5 एक आदमी 10 km/hr की गति से अपने ऑफिस जाता है और 15 km/hr की गति से लौटता है। यदि वह कुल 6 घंटे का समय लेता है, तो निवास और ऑफिस के बीच की दूरी है:

- Ans
- 1. 30 km
 - 2. 26 km
 - 3. 36 km
 - 4. 40 km

Question ID : 9895807720
Chosen Option : 3

Q.6 3 के पहले 6 विषम गुणकों का औसत है

- Ans
- 1. 18
 - 2. 15
 - 3. 30
 - 4. 28

Question ID : 9895807706
Chosen Option : 1

Q.6 A अकेला किसी कार्य को 6 दिनों में, B और C 4 दिनों में, A और C 3 दिनों में करते हैं। तो B को कार्य पूरा करने में कितने दिन लगेंगे?

- Ans
- 1. 8 दिन
 - 2. 12 दिन
 - 3. 14 दिन
 - 4. 10 दिन

Question ID : 9895807718
Chosen Option : 2

Q.6 सबसे छोटी संख्या कौन सी है जिसे 12, 15 और 18 से विभाजित करने पर प्रत्येक मामले में शेषफल 7 आता है?
2

- Ans
- 1. 182
 - 2. 173
 - 3. 187
 - 4. 194

Question ID : 9895807703
Chosen Option : 3

Q.6 ₹544 को A, B, C के बीच 3: 5: 8 के अनुपात में विभाजित किया जाना है। तो C को B से कितना अधिक मिलेगा?
3

- Ans
- 1. ₹272
 - 2. ₹92
 - 3. ₹170
 - 4. ₹102

Question ID : 9895807713
Chosen Option : 4

Q.6 22 परिक्रमण पर 49 cm त्रिज्या के पहिया द्वारा तय की गई समान दूरी को तय करने के लिए 98 cm त्रिज्या वाले पहिये द्वारा कितने परिक्रमण लगाने की आवश्यकता है?
4

- Ans
- 1. 11
 - 2. 13
 - 3. 14
 - 4. 12

Question ID : 9895807724
Chosen Option : 2

Q.6 80 वस्तुओं का माध्य 45 पाया गया। यदि गणना के समय, दो मर्दों को गलती से 26 और 14 के बजाय 62 और 58 लिया गया, तो सही माध्य होगा।
5

- Ans
- 1. 44
 - 2. 43
 - 3. 45
 - 4. 42

Question ID : 9895807709
Chosen Option : 4

Q.6 A अपने वेतन का 80% और B अपने वेतन का 75% खर्च करता है। लेकिन दोनों की बचत बराबर है। यदि उनकी आय का योग ₹72,000 है तो B की आय ज्ञात करें।
6

- Ans
- 1. ₹40,000
 - 2. ₹36,000
 - 3. ₹32,000
 - 4. ₹38,000

Question ID : 9895807714

Chosen Option : 3

Q.6 एक व्यक्ति अपनी आय का 35% भोजन पर और 55% कपड़ों पर खर्च करता है। यदि उसके पास अभी भी ₹400 शेष है, तो उसकी कुल आय क्या है?

- Ans 1. ₹4000
 2. ₹3000
 3. ₹4500
 4. ₹5000

Question ID : 9895807710
 Chosen Option : 1

Q.6 दो पाइप A और B क्रमशः 12 घंटे और 15 घंटे में एक टैंक भर सकते हैं, जबकि एक तीसरा पाइप C 10 घंटे में टैंक खाली कर सकता है। यदि सभी तीन पाइप एक साथ खोले जाते हैं, तो टैंक को भरने में कितना समय लगेगा।

- Ans 1. 18 घंटे
 2. 25 घंटे
 3. 20 घंटे
 4. 15 घंटे

Question ID : 9895807719
 Chosen Option : 3

Q.6 ₹720 में 18 गेंदे बेचने पर, 6 गेंदों के क्रय मूल्य के बराबर हानि होती है। एक गेंद का क्रय मूल्य है:

- Ans 1. ₹80
 2. ₹70
 3. ₹50
 4. ₹60

Question ID : 9895807712
 Chosen Option : 2

Q.7 एक तार एक वर्ग के आकार में मोड़ा जाता है जिसका 121 cm^2 क्षेत्रफल है। यदि तार को एक वृत्त के रूप में मोड़ा जाए तो वृत्त की त्रिज्या है:

- Ans 1. 5 cm
 2. 8 cm
 3. 7 cm
 4. 6 cm

Question ID : 9895807723
 Chosen Option : 2

Q.7 तीन संख्याओं में से, पहली संख्या दूसरी संख्या की दोगुनी और तीसरी संख्या की तीन गुनी है। यदि तीनों संख्याओं का औसत 660 है, तो सबसे छोटी संख्या क्या है?

- Ans 1. 260
 2. 300
 3. 360
 4. 320

Question ID : 9895807707

Chosen Option : 1

Q.7 सरलीकृत करें: $15.9 \div 0.3 + 3.2 \times (7.6 - 3.4) - 50$

- Ans
- 1. 16.24
 - 2. 16.44
 - 3. 15.44
 - 4. 15.42

Question ID : 9895807705

Chosen Option : 2

Q.7 एक व्यक्ति ने SBI से 10% प्रति वर्ष की साधारण ब्याज दर पर ऋण लिया। 5 वर्ष बाद, उसने ब्याज के रूप में ₹5,000 का भुगतान किया। तो उसके द्वारा उधर ली गई मूल राशि है:

- Ans
- 1. ₹8,000
 - 2. ₹9,000
 - 3. ₹10,000
 - 4. ₹12,000

Question ID : 9895807716

Chosen Option : 4

Q.7 निम्न तालिका का अध्ययन करें और प्रश्न का उत्तर दें।

4

विभिन्न राज्यों में निम्न वर्षों में एक प्रतियोगी परीक्षा में उपस्थित और अर्हताप्राप्त उम्मीदवारों की संख्या

राज्य	वर्ष									
	1997		1998		1999		2000		2001	
	App.	Qual.	App.	Qual.	App.	Qual.	App.	Qual.	App.	Qual.
M	5200	720	8500	980	7400	850	6800	775	9500	1125
N	7500	840	9200	1050	8450	920	9200	980	8800	1020
P	6400	780	8800	1020	7800	890	8750	1010	9750	1250
Q	8100	950	9500	1240	8700	980	9700	1200	8950	995
R	7800	870	7600	940	9800	1350	7600	945	7990	885

2000 में एक साथ सभी राज्यों से अर्हताप्राप्त उम्मीदवारों की कुल संख्या 2001 में सभी राज्यों से अर्हताप्राप्त उम्मीदवारों की कुल संख्या का लगभग कितना प्रतिशत है?

- Ans
- 1. 93%
 - 2. 91%
 - 3. 94%
 - 4. 92%

Question ID : 9895807725

Chosen Option : 1

Q.7 एक बैंडर ने एक रुपये में 10 टॉफियां की दर से टॉफियां खरीदी। उसे 25% लाभ हासिल करने के लिए एक रुपये में कितनी टॉफियां बेचनी चाहिए?

- Ans
- 1. 5
 - 2. 7
 - 3. 8
 - 4. 6

Question ID : 9895807711
Chosen Option : 3

Section : English Language

Q.1 Select the most appropriate option to substitute the underlined segment in the given sentence. If there is no need to substitute it, select No improvement.

There is a paradigm shift with digital media now becoming the primary source of information.

- Ans
- 1. There is paradigm shifts
 - 2. There are paradigm shift
 - 3. There was paradigm shift
 - 4. No improvement

Question ID : 9895808039
Chosen Option : --

Q.2 Select the most appropriate option to substitute the underlined segment in the given sentence. If there is no need to substitute it, select No improvement.

Karishma sent a word to me that she would be coming over.

- Ans
- 1. sent words
 - 2. No improvement
 - 3. had sent word
 - 4. sent a word

Question ID : 9895808038
Chosen Option : --

Q.3 From the given options, identify the segment in the sentence which contains the grammatical error.

Technology have not only revolutionized the learning process but also has spread knowledge liberally across the world.

- Ans
- 1. Technology have not only
 - 2. the learning process
 - 3. has spread knowledge
 - 4. across the world

Question ID : 9895808037
Chosen Option : --

Q.4 Select the correctly spelt word.

- Ans
- 1. Heterogenaous
 - 2. Heteroganeous
 - 3. Hetarogeneous
 - 4. Heterogeneous

Question ID : 9895808058
Chosen Option : --

Q.5 Select the most appropriate word to fill in the blank.

Friends who empathise with one another _____ greater satisfaction with their friendship.

- Ans
- 1. experience

- 2. relish
- 3. believe
- 4. appreciate

Question ID : 9895808059
Chosen Option : --

Q.6 Select the antonym of the given word.

MUNDANE

- Ans
- 1. Regular
 - 2. Simple
 - 3. Extraordinary
 - 4. Common

Question ID : 9895808052
Chosen Option : --

Q.7 Select the word which means the same as the group of words given.

Anything that cannot be avoided.

- Ans
- 1. Infallible
 - 2. Inevitable
 - 3. Indelible
 - 4. Invincible

Question ID : 9895808055
Chosen Option : --

Comprehension:

In the following passage some words have been deleted. Fill in the blanks with the help of the alternatives given.

We are the leaders of the day and we have (1) _____ to fight against corruption. We have taken an oath that we will (2) _____ pay bribes nor will accept them in our life. If we can develop a committed young generation with this commitment and (3) _____, we can make a big change. We have several examples of how a committed leadership can make a big positive (4) _____ on social life. Another solution is to go for complete digitization and making the process more (5) _____. So let's be optimistic and dream about a corruption free society.

SubQuestion No : 8

Q.8 Select the most appropriate option that will fill in the blank number 1.

- Ans
- 1. reserved
 - 2. directed
 - 3. taken
 - 4. resolved

Question ID : 9895808044
Chosen Option : --

Comprehension:

In the following passage some words have been deleted. Fill in the blanks with the help of the alternatives given.

We are the leaders of the day and we have (1) _____ to fight against corruption. We have taken an oath that we will (2) _____ pay bribes nor will accept them in our life. If we can develop a committed young generation with this commitment and (3) _____, we can make a big change. We have several examples of how a committed leadership can make a big positive (4) _____ on social life. Another solution is to go for complete digitization and making the process more (5) _____. So let's be optimistic and dream about a corruption free society.

SubQuestion No : 9

Q.9 Select the most appropriate option that will fill in the blank number 2.

- Ans 1. ever
 2. later
 3. never
 4. soon

Question ID : 9895808045

Chosen Option : --

Comprehension:

In the following passage some words have been deleted. Fill in the blanks with the help of the alternatives given.

We are the leaders of the day and we have (1) _____ to fight against corruption. We have taken an oath that we will (2) _____ pay bribes nor will accept them in our life. If we can develop a committed young generation with this commitment and (3) _____, we can make a big change. We have several examples of how a committed leadership can make a big positive (4) _____ on social life. Another solution is to go for complete digitization and making the process more (5) _____. So let's be optimistic and dream about a corruption free society.

SubQuestion No : 10

Q.10 Select the most appropriate option that will fill in the blank number 3.

- Ans 1. reliance
 2. promise
 3. belief
 4. support

Question ID : 9895808046

Chosen Option : --

Comprehension:

In the following passage some words have been deleted. Fill in the blanks with the help of the alternatives given.

We are the leaders of the day and we have (1) _____ to fight against corruption. We have taken an oath that we will (2) _____ pay bribes nor will accept them in our life. If we can develop a committed young generation with this commitment and (3) _____, we can make a big change. We have several examples of how a committed leadership can make a big positive (4) _____ on social life. Another solution is to go for complete digitization and making the process more (5) _____. So let's be optimistic and dream about a corruption free society.

SubQuestion No : 11

Q.1
1 Select the most appropriate option that will fill in the blank number 4.

- Ans
- 1. guilt
 - 2. impact
 - 3. blame
 - 4. liability

Question ID : 9895808047
Chosen Option : --

Comprehension:

In the following passage some words have been deleted. Fill in the blanks with the help of the alternatives given.

We are the leaders of the day and we have (1) _____ to fight against corruption. We have taken an oath that we will (2) _____ pay bribes nor will accept them in our life. If we can develop a committed young generation with this commitment and (3) _____, we can make a big change. We have several examples of how a committed leadership can make a big positive (4) _____ on social life. Another solution is to go for complete digitization and making the process more (5) _____. So let's be optimistic and dream about a corruption free society.

SubQuestion No : 12

Q.1
2 Select the most appropriate option that will fill in the blank number 5.

- Ans
- 1. opaque
 - 2. transparent
 - 3. secret
 - 4. hidden

Question ID : 9895808048
Chosen Option : --

Q.1
3 Select the synonym of the given word.

GALLANT

- Ans
- 1. Courageous
 - 2. Infirm
 - 3. Anxious

4. Restless

Question ID : 9895808049

Chosen Option : --

Q.1
4 Select the option that means the same as the given idiom.

To hit the road.

- Ans 1. Begin one's journey
 2. To meet with an accident
 3. To complete a journey
 4. To cross the road

Question ID : 9895808053

Chosen Option : --

Q.1
5 Select the most appropriate option to fill in the blank.

Artificial intelligence (AI) _____ defined as a system that employs machine learning.

- Ans 1. are
 2. was
 3. were
 4. is

Question ID : 9895808041

Chosen Option : --

Q.1
6 Select the correctly spelt word.

- Ans 1. Riceipt
 2. Receipt
 3. Receptit
 4. Reciept

Question ID : 9895808057

Chosen Option : --

Q.1
7 Select the synonym of the given word.

ERADICATE

- Ans 1. Create
 2. Abolish
 3. Dedicate
 4. Decorate

Question ID : 9895808050

Chosen Option : --

Q.1
8 Select the most appropriate option to fill in the blank.

Honesty _____ to being trustworthy and gaining personal recognition.

- Ans
- 1. refers
 - 2. referred
 - 3. referring
 - 4. refer

Question ID : 9895808042
Chosen Option : --

Q.1 From the given options, identify the segment in the sentence which contains the grammatical error.

9

Poverty and lack of schools are primary reasons for prevalence of child labour for any developing country.

- Ans
- 1. primary reasons
 - 2. of child labour
 - 3. for any developing country
 - 4. lack of schools

Question ID : 9895808036
Chosen Option : --

Q.2 Select the antonym of the given word.

0

LIBERAL

- Ans
- 1. Stingy
 - 2. Aloof
 - 3. Quiet
 - 4. Reserved

Question ID : 9895808051
Chosen Option : --

Q.2 From the given options, identify the segment in the sentence which contains the grammatical error.

1

Fitness does not mean to be only physically fit, it also meant healthy mental state of a person.

- Ans
- 1. it also meant healthy
 - 2. mental state of a person
 - 3. only physically fit
 - 4. Fitness does not mean

Question ID : 9895808035
Chosen Option : --

Q.2 Select the most appropriate option to substitute the underlined segment in the given sentence. If there is no need to substitute it, select No improvement.

2

An award winning by a player in any game is testimony of his/her hard work and dedication.

- Ans
- 1. An award win by a player
 - 2. An award won for a player
 - 3. No improvement
 - 4. A award won by a player

Question ID : 9895808040

Chosen Option : --

Q.2
3 Select the word which means the same as the group of words given.

An imaginary ideal society free of poverty and suffering.

- Ans
- 1. Utopian
 - 2. Egalitarian
 - 3. Cosmopolitan
 - 4. Urban

Question ID : 9895808056
Chosen Option : --

Q.2
4 Select the option that means the same as the given idiom.

To have a blast.

- Ans
- 1. To have a good time
 - 2. To burst a balloon
 - 3. To have too many friends
 - 4. To fire a cracker

Question ID : 9895808054
Chosen Option : --

Q.2
5 Select the most appropriate word to fill in the blank.

Every good work is the result of cooperation and best wishes of _____ people.

- Ans
- 1. rare
 - 2. few
 - 3. limited
 - 4. several

Question ID : 9895808060
Chosen Option : --

Section : Hindi Language

Q.1 रिक्त स्थान को भरने के लिए उपयुक्त शब्द का चयन करें।

मुझे नैना पर चोरी का _____ है।

- Ans
- 1. गर्व
 - 2. अपमान
 - 3. मान
 - 4. संदेह

Question ID : 9895806822
Chosen Option : 4

Q.2

दिए गए वाक्य में रेखांकित खंड को प्रतिस्थापित करने के लिए उपयुक्त विकल्प का चयन करें।

उसका भर्ता अच्छा शिक्षक है।

- Ans
- 1. पुत्र
 - 2. पुत्री
 - 3. पति
 - 4. भाई

Question ID : 9895806818
Chosen Option : 4

Q.3 रिक्त स्थान को भरने के लिए उपयुक्त शब्द का चयन करें।

पेट्रोल के _____ बढ़ गए हैं।

- Ans
- 1. नाम
 - 2. दाम
 - 3. शाम
 - 4. कीमत

Question ID : 9895806821
Chosen Option : 2

Q.4 दिए गए शब्द के पर्यायवाची शब्द का चयन करें।

समता

- Ans
- 1. केतु
 - 2. बराबरी
 - 3. असमता
 - 4. संकट

Question ID : 9895806831
Chosen Option : 2

Q.5 दिए गए शब्द का विलोम चुनें।

रोगी

- Ans
- 1. बलवान
 - 2. योगी
 - 3. भोगी
 - 4. निरोग

Question ID : 9895806830
Chosen Option : 4

Comprehension:

निम्नलिखित गद्यांश के रिक्त स्थानों की पूर्ति गद्यांश के नीचे दिए गए प्रश्नों के अनुसार कीजिए-

आज के समय में लड़का लड़की एक _____ (1) हैं। आज अगर कोई ये मानता है कि लड़की कुछ नहीं कर सकती और लड़का सब कुछ कर सकता है तो वह इंसान _____ (2) है। आज का समय पहले की तरह नहीं जहाँ लड़कियों को सिर्फ घर का काम और बच्चों को संभालने की _____ (3) दी जाती थी और ये माना जाता था कि इसके इलावा लड़कियाँ और कुछ नहीं कर सकतीं। अब लड़कियाँ लड़कों के कंधे से कन्धा _____ (4) काम करती हैं। अब सरकार और समाज ने दोनों को _____ (5) का दर्जा दिया है।

SubQuestion No : 6

Q.6 गद्यांश में संकेतित रिक्त स्थान (1) के लिए उपयुक्त शब्द होगा।

- Ans
- 1. सामान
 - 2. अभिन्न
 - 3. समान
 - 4. भिन्न

Question ID : 9895806824

Chosen Option : 3

Comprehension:

निम्नलिखित गद्यांश के रिक्त स्थानों की पूर्ति गद्यांश के नीचे दिए गए प्रश्नों के अनुसार कीजिए-

आज के समय में लड़का लड़की एक _____ (1) हैं। आज अगर कोई ये मानता है कि लड़की कुछ नहीं कर सकती और लड़का सब कुछ कर सकता है तो वह इंसान _____ (2) है। आज का समय पहले की तरह नहीं जहाँ लड़कियों को सिर्फ घर का काम और बच्चों को संभालने की _____ (3) दी जाती थी और ये माना जाता था कि इसके इलावा लड़कियाँ और कुछ नहीं कर सकतीं। अब लड़कियाँ लड़कों के कंधे से कन्धा _____ (4) काम करती हैं। अब सरकार और समाज ने दोनों को _____ (5) का दर्जा दिया है।

SubQuestion No : 7

Q.7 गद्यांश में संकेतित रिक्त स्थान (2) के लिए उपयुक्त शब्द होगा।

- Ans
- 1. सही
 - 2. गलत
 - 3. आदर्श
 - 4. उचित

Question ID : 9895806825

Chosen Option : 2

Comprehension:

निम्नलिखित गद्यांश के रिक्त स्थानों की पूर्ति गद्यांश के नीचे दिए गए प्रश्नों के अनुसार कीजिए-

आज के समय में लड़का लड़की एक _____ (1) हैं। आज अगर कोई ये मानता है कि लड़की कुछ नहीं कर सकती और लड़का सब कुछ कर सकता है तो वह इंसान _____ (2) है। आज का समय पहले की तरह नहीं जहाँ लड़कियों को सिर्फ घर का काम और बच्चों को संभालने की _____ (3) दी जाती थी और ये माना जाता था कि इसके इलावा लड़कियाँ और कुछ नहीं कर सकतीं। अब लड़कियाँ लड़कों के कंधे से कन्धा _____ (4) काम करती हैं। अब सरकार और समाज ने दोनों को _____ (5) का दर्जा दिया है।

SubQuestion No : 8

Q.8 गद्यांश में संकेतित रिक्त स्थान (3) के लिए उपयुक्त शब्द होगा।

- Ans
- 1. ईमानदारी
 - 2. हिस्सेदारी
 - 3. नौकरी
 - 4. जिम्मेदारी

Question ID : 9895806826

Chosen Option : 4

Comprehension:

निम्नलिखित गद्यांश के रिक्त स्थानों की पूर्ति गद्यांश के नीचे दिए गए प्रश्नों के अनुसार कीजिए-

आज के समय में लड़का लड़की एक _____ (1) हैं। आज अगर कोई ये मानता है कि लड़की कुछ नहीं कर सकती और लड़का सब कुछ कर सकता है तो वह इंसान _____ (2) है। आज का समय पहले की तरह नहीं जहाँ लड़कियों को सिर्फ घर का काम और बच्चों को संभालने की _____ (3) दी जाती थी और ये माना जाता था कि इसके इलावा लड़कियाँ और कुछ नहीं कर सकतीं। अब लड़कियाँ लड़कों के कंधे से कन्धा _____ (4) काम करती हैं। अब सरकार और समाज ने दोनों को _____ (5) का दर्जा दिया है।

SubQuestion No : 9

Q.9 गद्यांश में संकेतित रिक्त स्थान (4) के लिए उपयुक्त शब्द होगा।

- Ans
- 1. हटाकर
 - 2. लगाकर
 - 3. मिलाकर
 - 4. टकराकर

Question ID : 9895806827
Chosen Option : 3

Comprehension:

निम्नलिखित गद्यांश के रिक्त स्थानों की पूर्ति गद्यांश के नीचे दिए गए प्रश्नों के अनुसार कीजिए-

आज के समय में लड़का लड़की एक _____ (1) हैं। आज अगर कोई ये मानता है कि लड़की कुछ नहीं कर सकती और लड़का सब कुछ कर सकता है तो वह इंसान _____ (2) है। आज का समय पहले की तरह नहीं जहाँ लड़कियों को सिर्फ घर का काम और बच्चों को संभालने की _____ (3) दी जाती थी और ये माना जाता था कि इसके इलावा लड़कियाँ और कुछ नहीं कर सकतीं। अब लड़कियाँ लड़कों के कंधे से कन्धा _____ (4) काम करती हैं। अब सरकार और समाज ने दोनों को _____ (5) का दर्जा दिया है।

SubQuestion No : 10

Q.1
0 गद्यांश में संकेतित रिक्त स्थान (5) के लिए उपयुक्त शब्द होगा।

- Ans
- 1. विशिष्टता
 - 2. बराबरी
 - 3. असमानता
 - 4. समीपता

Question ID : 9895806828
Chosen Option : 2

Q.1
1 दिए गए वाक्य का वह भाग ज्ञात करें जिसमें कोई त्रुटि है।

तुलसीदास जी ने रामचरित मानस की रचना अवधी भाषा में किए हैं।

- Ans
- 1. अवधी भाषा में
 - 2. किए हैं।
 - 3. रामचरित मानस की रचना
 - 4. तुलसीदास जी ने

Question ID : 9895806814
Chosen Option : 2

Q.1
2

दिये गये वाक्यांश के लिए एक शब्द दीजिये।

शरण में आया हुआ

- Ans
- 1. शरणीय
 - 2. आगत
 - 3. शरणागत
 - 4. गोपनीय

Question ID : 9895806835
Chosen Option : 3

Q.1
3 सही वर्तनी वाले शब्द का चयन करें।

- Ans
- 1. हंसवहिनि
 - 2. हंसवाहीनी
 - 3. हंसवाहिनी
 - 4. हनसवहिनी

Question ID : 9895806837
Chosen Option : 3

Q.1
4 दिए गए वाक्य में रेखांकित खंड को प्रतिस्थापित करने के लिए उपयुक्त विकल्प का चयन करें।

मेरा मित्र जरूरी काम में व्यस्त है।

- Ans
- 1. सामान्य
 - 2. कठोर
 - 3. आवश्यक
 - 4. साधारण

Question ID : 9895806816
Chosen Option : 3

Q.1
5 दिए गए वाक्य का वह भाग जात करें जिसमें कोई त्रुटि है।

श्रम की साधना से ही राष्ट्र महान होती है।

- Ans
- 1. राष्ट्र महान
 - 2. साधना से ही
 - 3. श्रम की
 - 4. होती है।

Question ID : 9895806813
Chosen Option : 1

Q.1
6 निम्नलिखित में से उस विकल्प का चयन करें जो 'नाक में नकेल डालना' मुहावरे का अर्थ व्यक्त करता है।

- Ans
- 1. परेशान करना

2. नाक में नथ पहनाना
3. नियंत्रण में करना
4. अनियंत्रित करना

Question ID : 9895806834
Chosen Option : 3

Q.1
7 दिए गए वाक्य का वह भाग ज्ञात करें जिसमें कोई त्रुटि है।

कहने की आवश्यकता नहीं कि पुरुष किन्तु नारी एक दूसरे के पूरक हैं।

- Ans
1. कहने की आवश्यकता नहीं कि
2. एक दूसरे के
3. पुरुष किन्तु नारी
4. पूरक हैं।

Question ID : 9895806815
Chosen Option : 3

Q.1
8 रिक्त स्थान को भरने के लिए उपयुक्त शब्द का चयन करें।

मोहन स्कूल जाता है _____ मन लगाकर पढ़ता है।

- Ans
1. और
2. यदि
3. किन्तु
4. परन्तु

Question ID : 9895806819
Chosen Option : 1

Q.1
9 दिये गये वाक्यांश के लिए एक शब्द दीजिये।

हाथ से लिखा हुआ

- Ans
1. हस्तलिखित
2. उल्लिखित
3. अधोलिखित
4. निम्नलिखित

Question ID : 9895806836
Chosen Option : 1

Q.2
0

दिए गए वाक्य में रेखांकित खंड को प्रतिस्थापित करने के लिए उपयुक्त विकल्प का चयन करें।

पिक का स्वर बहुत मधुर होता है।

- Ans
- 1. वायु
 - 2. कोयल
 - 3. तरु
 - 4. गरुड़

Question ID : 9895806817
Chosen Option : 2

Q.2
1 निम्नलिखित में से उस विकल्प का चयन करें जो 'हाथ पाँव फूल जाना' मुहावरे का अर्थ व्यक्त करता है।

- Ans
- 1. हाथ-पैर में चोट लगना
 - 2. सूजन आ जाना
 - 3. दुखी हो जाना
 - 4. घबरा जाना

Question ID : 9895806833
Chosen Option : 4

Q.2
2 सही वर्तनी वाले शब्द का चयन करें।

- Ans
- 1. परधानमंत्री
 - 2. पर्धानमंत्री
 - 3. प्रधानमनत्री
 - 4. प्रधानमंत्री

Question ID : 9895806838
Chosen Option : 4

Q.2
3 रिक्त स्थान को भरने के लिए उपयुक्त शब्द का चयन करें।

वह दिल्ली से _____ आया है।

- Ans
- 1. चल
 - 2. आज
 - 3. थोड़ा
 - 4. ज्यादा

Question ID : 9895806820
Chosen Option : 2

Q.2
4 दिए गए शब्द का विलोम चुनें।

सजीव

- Ans
- 1. जीवित

2. राजीव
 3. निर्जीव
 4. जीव

Question ID : 9895806829
Chosen Option : 3

Q.2
5 दिए गए शब्द के पर्यायवाची शब्द का चयन करें।

प्रयत्न

- Ans 1. प्रयास
 2. श्रेष्ठ
 3. अनायास
 4. पयोद

Question ID : 9895806832
Chosen Option : 1

KD Job Updates

Constable (GD) in CAPFs, NIA, SSF and Rifleman (GD) in Assam Rifles Examination, 2018

Roll No. :	
Registration No.	
Name :	
Exam Venue :	
Exam Time :	4:00 PM - 5:30 PM
Exam Date :	03/03/2019

Section : General Section

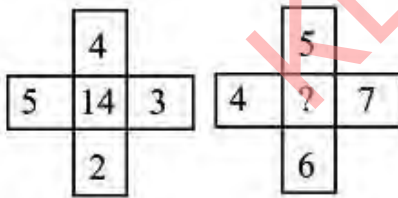
Q.1 दिए गए विकल्पों में से संबंधित शब्द युगल का चयन करें।

भारत : रुपया :: _____ : _____

- Ans
- 1. दक्षिण अफ्रीका : पाउंड
 - 2. चीन : येन
 - 3. स्विट्जरलैंड : यूरो
 - 4. रूस : रूबल

Question ID : 9895808343
Chosen Option : 2

Q.2 दिए गए विकल्पों में से लुप्त संख्या ज्ञात करें।



- Ans
- 1. 7
 - 2. 6
 - 3. 3
 - 4. 4

Question ID : 9895808356
Chosen Option : 2

Q.3 उस विकल्प का चयन करें जो तीसरे पद से उसी तरह संबंधित है जिस प्रकार पहला पद दूसरे पद से संबंधित है।

AFK : EJO :: PUZ : ?

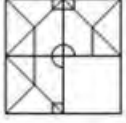
- Ans
- 1. USC

- 2. TXE
- 3. UOM
- 4. TYD

Question ID : 9895808344
Chosen Option : 4

Q.4 निम्नलिखित में से कौन सी उत्तर आकृति दी गई आकृति को पूरा करेगी?

प्रश्न आकृति:



Ans

- 1.
- 2.
- 3.
- 4.

Question ID : 9895808359
Chosen Option : 2

Q.5 नीचे दिए गए कथनों के बाद दो निष्कर्ष I और II दिए गए हैं। यह मानते हुए कि कथनों में दी गई जानकारी सत्य है, भले ही वह सर्वज्ञात तथ्यों से भिन्न प्रतीत होती हो, तय करें कि कौन सा/से निष्कर्ष तार्किक और निश्चित रूप से कथन में दी गई जानकारी का अनुसरण करता है/करते हैं।

कथन:

कुछ स्कूटर, प्लेन हैं।
कुछ प्लेन, कुत्ते हैं।
कुछ कुत्ते, पौधे हैं।

निष्कर्ष:

- I. कुछ पौधे स्कूटर हैं।
- II. कोई प्लेन स्कूटर नहीं है।

Ans

- 1. केवल निष्कर्ष II अनुसरण करता है।
- 2. न तो निष्कर्ष I और न ही II अनुसरण करता है।
- 3. या तो निष्कर्ष I या II अनुसरण करता है।
- 4. केवल निष्कर्ष I अनुसरण करता है।

Question ID : 9895808351

Chosen Option : 4

Q.6 उस विकल्प का चयन करें जो तीसरे पद से उसी तरह संबंधित है जिस प्रकार पहला पद दूसरे पद से संबंधित है।

35 : 15 :: 72 : ?

Ans 1. 14

2. 54

3. 27

4. 15

Question ID : 9895808354

Chosen Option : 3

Q.7 उस विकल्प का चयन करें जो तीसरे पद से उसी तरह संबंधित है जिस प्रकार पहला पद दूसरे पद से संबंधित है।

हाथ : उंगली :: पैर : _____

Ans 1. चलना

2. पैर की उंगलियां

3. एड़ी

4. घुटना

Question ID : 9895808342

Chosen Option : 2

Q.8 उस विकल्प का चयन करें जो सही रूप में रिक्त स्थान को भरे और श्रृंखला को पूरा करें।

145, 100, 65, 40, ?

Ans 1. 20

2. 15

3. 10

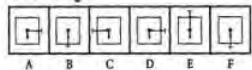
4. 25

Question ID : 9895808352

Chosen Option : 4

Q.9 निम्नलिखित आकृतियों में से उन दो आकृतियों को पहचानें जो स्थान से बाहर हैं और पूरी श्रृंखला को क्रम में करने के लिए जिसमें परस्पर स्थानों का अदल बदल जरूरी है।

प्रश्न आकृति:



Ans 1. (D & F)

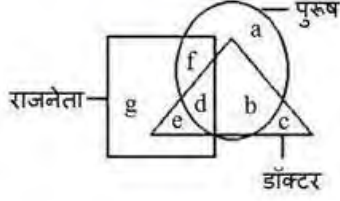
2. (A & C)

3. (B & D)

✓ 4. (D & E)

Question ID : 9895808358
Chosen Option : 3

Q.1 निम्नलिखित वेन आरेख का अध्ययन करें और दिए गए प्रश्न का उत्तर दें.



कौन-सा अक्षर एक पुरुष राजनेता का प्रतिनिधित्व करता है?

- Ans
- 1. d
 - 2. e
 - 3. f
 - 4. b

Question ID : 9895808363
Chosen Option : 3

Q.1 नीचे दिए गए कथनों के बाद दो निष्कर्ष I और II दिए गए हैं। यह मानते हुए कि कथनों में दी गई जानकारी सत्य है, भले ही वह सर्वज्ञात तथ्यों से भिन्न प्रतीत होती हो, तय करें कि कौन सा/से निष्कर्ष तार्किक और निश्चित रूप से कथन में दी गई जानकारी का अनुसरण करता है/करते हैं।

कथन:

सभी बच्चे, वयस्क हैं।
कुछ वयस्क, बुजुर्ग हैं।

निष्कर्ष:

- I. सभी बुजुर्ग, बच्चे हैं।
- II. कुछ बच्चे, बुजुर्ग हैं।

- Ans
- 1. केवल निष्कर्ष II अनुसरण करता है।
 - 2. न तो निष्कर्ष I और न ही II अनुसरण करता है।
 - 3. केवल निष्कर्ष I अनुसरण करता है।
 - 4. या तो निष्कर्ष I या II अनुसरण करता है।

Question ID : 9895808350
Chosen Option : 2

Q.1 चार अक्षर समूह दिए गए हैं, जिनमें से तीन किसी तरह से समान हैं, जबकि एक अलग है। असंगत अक्षर समूह का चयन करें।

- Ans
- 1. INS

2. HMR
 3. JOT
 4. DLT

Question ID : 9895808340
Chosen Option : 4

Q.1 3 उन गणितीय चिन्हों के सही संयोजन का चयन करें जो '*' चिन्हों का स्थान लें और दिए गए समीकरण को संतुलित करें:

$$78 + 3 + 4 + 36 + 140$$

Ans

1. $\div \times + =$
 2. $- + \times =$
 3. $\div \times - =$
 4. $+ + \div =$

Question ID : 9895808357
Chosen Option : 1

Q.1 4 45 विद्यार्थियों की कक्षा में एक लड़के का स्थान 20वाँ है। जब दो और लड़के जुड़ते हैं तो उसका स्थान एक से कम हो जाता है। तो अंतिम स्थान से उसका नया स्थान क्या है?

Ans

1. 28वाँ
 2. 27वाँ
 3. 26वाँ
 4. 25वाँ

Question ID : 9895808349
Chosen Option : 1

Q.1 5 एक निश्चित कूट भाषा में, ANIMAL को INALAM के रूप में लिखा जाता है। उसी कूट भाषा में SAMPLE कैसे लिखा जाता है?

Ans

1. MASELP
 2. MSALEP
 3. MALESP
 4. ASMALE

Question ID : 9895808345
Chosen Option : 1

Q.1 6

उस विकल्प आकृति का चयन करें, जिसमें प्रश्न आकृति अंतर्निहित है।

प्रश्न आकृति:



Ans

1.



2.



3.



4.



Question ID : 9895808360
Chosen Option : 3

Q.1
7

पाँच बन्दर A, B, C, D, और E, पेड़ की एक शाखा पर बैठे हैं। C, D के बगल में बैठा है। D, E के साथ नहीं बैठा है। E, शाखा के बाएं छोर पर बैठा है। C, दाएं से दूसरे स्थान पर है। A, B के तुरंत दायीं ओर है और B, E के दायीं ओर है। A और C साथ में बैठे हैं। केन्द्र पर कौन बैठा है?

Ans

1. A

2. D

3. C

4. B

Question ID : 9895808347
Chosen Option : 1

Q.1
8

उस सही विकल्प का चयन करें जो रिक्त स्थान को भरे और श्रृंखला को पूरा करें।

WVU, RQP, MLK, ?

Ans

1. JHI

2. IGF

3. HGI

4. HGF

Question ID : 9895808339

Q.1 चार विकल्प दिए गए हैं, जिनमें से तीन किसी तरह से समान हैं, जबकि एक अलग है। असंगत का चयन करें।

- Ans
- 1. 693
 - 2. 473
 - 3. 385
 - 4. 287

Question ID : 9895808355
Chosen Option : 1

Q.2 यदि SENSIBLE को 10 के रूप में लिखते हैं और SAMUELS को 9 के रूप से, तो NADAL को किस रूप में लिखा जाएगा?

- Ans
- 1. 9
 - 2. 11
 - 3. 7
 - 4. 4

Question ID : 9895808346
Chosen Option : 3

Q.2 X, Y, Z, P, Q और R उत्तर की ओर मुख कर के एक पंक्ति में बैठे हैं। X, Y और P का पड़ोसी है। Q, Z और R का पड़ोसी है, P, X के दायीं ओर है और P और Z एक दूसरे के निकटतम पड़ोसी हैं।

कौन सा जोड़ा बिलकुल किनारों पर बैठता है?

- Ans
- 1. Y, P
 - 2. X, P
 - 3. Y, R
 - 4. P, Z

Question ID : 9895808348
Chosen Option : 3

Q.2 कागज का एक टुकड़ा प्रश्न आकृतियों में दिखाया गया है इस तरह मोड़ा और काटा जाता है। दिए गए चित्रों से, बताइए कि जब खोला जाएगा तब वह कैसा दिखाई देगा?

प्रश्न आकृति:



- Ans
- 1.
 - 2.



Question ID : 9895808362
Chosen Option : 4

Q.2 3 चार शब्द दिए गए हैं, जिनमें से तीन किसी तरह से समान हैं, जबकि एक अलग है। असंगत शब्द का चयन करें।

- Ans
- 1. कथकली
 - 2. कुचिपुड़ी
 - 3. हेमिस
 - 4. सत्रीया

Question ID : 9895808341
Chosen Option : 3

Q.2 4 उस विकल्प का चयन करें जो सही रूप में रिक्त स्थान को भरे और श्रृंखला को पूरा करें।

2, 8, 32, 128, 512, ?

- Ans
- 1. 2048
 - 2. 2067
 - 3. 2507
 - 4. 2536

Question ID : 9895808353
Chosen Option : 1

Q.2 5 यदि दर्पण को MN की रेखा पर रखा जाता है, तो कौन सी उत्तर आकृति दी गई आकृति की सही छवि है?

प्रश्न आकृति:

M N



- Ans
- 1.
 - 2.
 - 3.



Question ID : 9895808361
Chosen Option : 1

Q.2
6 करनल का युद्ध (1739) फारसी बादशाह नादिरशाह ने किसे हराकर जीता?

- Ans
- 1. गियासुद्दीन बलबन
 - 2. शुजाउद्दौला, अवध का नवाब
 - 3. मुगल शासक, मुहम्मद शाह
 - 4. गुलाम मुहम्मद गौस खान

Question ID : 9895807427
Chosen Option : 2

Q.2
7 टेस्ला किसकी इकाई है?

- Ans
- 1. विद्युत चालकत्व
 - 2. चुंबकीय प्रवाह
 - 3. चुंबकीय प्रवाह घनत्व
 - 4. धारिता

Question ID : 9895807418
Chosen Option : 3

Q.2
8 निम्नलिखित नृत्यों में से कौन सा अरुणाचल प्रदेश का नृत्य है?

- Ans
- 1. लेजिम
 - 2. चिराव
 - 3. पोपिर
 - 4. माचा

Question ID : 9895807405
Chosen Option : 2

Q.2
9 किस देश की महिला टीम ने दक्षिण कोरिया में आयोजित 2018 का कैरम विश्व कप जीता?

- Ans
- 1. भारत
 - 2. जापान
 - 3. दक्षिण कोरिया
 - 4. चीन

Question ID : 9895807406

Chosen Option : 2

Q.3
0 कौन सी ग्रंथि अन्य अंतःस्रावी ग्रंथियों के कार्य को नियंत्रित करती है?

- Ans
- 1. अधिवृक्क (अड्रीनल) ग्रंथि
 - 2. गावदुम (पीनियल) ग्रंथि
 - 3. पीयूष (पिट्यूटेरी) ग्रंथि
 - 4. गलग्रंथि (थाइरॉयड) ग्रंथि

Question ID : 9895807419

Chosen Option : 3

Q.3
1 'r' त्रिज्या के एक वृत्त में स्पर्शज्या वेग 'v' से गतिमान 'm' द्रव्यमान के एक निकाय की वृत्ताकार गति के लिए कितने अभिकेंद्रीय बल 'F' की आवश्यकता है?

- Ans
- 1. mr/v^2
 - 2. mr^2/v
 - 3. mv/r^2
 - 4. mv^2/r

Question ID : 9895807417

Chosen Option : 3

Q.3
2 केंद्रीय बजट 2018 ने कितनी राशि के साथ कृषि के लिए ऑपरेशन ग्रीन प्रारम्भ करने की घोषणा की?

- Ans
- 1. ₹1,000 करोड़
 - 2. ₹5,000 करोड़
 - 3. ₹500 करोड़
 - 4. ₹100 करोड़

Question ID : 9895807412

Chosen Option : 3

Q.3
3 भारतीय संविधान में मूल कर्तव्य किस देश के संविधान से लिए गए हैं?

- Ans
- 1. यूएसएसआर
 - 2. कनाडा
 - 3. फ्रांस
 - 4. ब्रिटेन

Question ID : 9895807414

Chosen Option : 2

Q.3
4 निम्न में से कौन सी विक्रम सेठ की पुस्तक है?

- Ans
- 1. द मिस्ट्रेस ऑफ स्पाइसेज
 - 2. द ओशन ऑफ चर्न
 - 3. रिवर ऑफ स्मोक
 - 4. रॉयट एट मिस्री मंडी

Question ID : 9895807409
Chosen Option : 1

Q.3
5 भारतीय सिविल सेवा के लिए अर्हता प्राप्त करने वाले प्रथम भारतीय का नाम बताइए।

- Ans
- 1. वी. ओ. चिदंबरम पिल्लै
 - 2. सत्येंद्रनाथ टैगोर
 - 3. दादाभाई नौरोजी
 - 4. बंकिम चंद्र चटर्जी

Question ID : 9895807426
Chosen Option : 1

Q.3
6 हरकन्या वंश के उस शासक का नाम बताइए जो अजातशत्रु का पुत्र था और जिसने पाटलिपुत्र नगर की नींव रखी।

- Ans
- 1. महानंदिन
 - 2. प्रद्योत
 - 3. उदायिन
 - 4. नंदीवर्धन

Question ID : 9895807425
Chosen Option : 3

Q.3
7 ह्यूमरस किस अंग का भाग है?

- Ans
- 1. बांह
 - 2. पैर
 - 3. कंधे करधनी
 - 4. रीढ़

Question ID : 9895807421
Chosen Option : 4

Q.3
8 उस इकाई का नाम बताइए जिसमें ईंधन का उष्मीय (कैलरिफिक) मान व्यक्त किया जाता है।

Ans

✓ 1. किलोजूल

✗ 2. कैन्डेला

✗ 3. किलोग्राम

✗ 4. केल्विन

Question ID : 9895807420

Chosen Option : 2

Q.3
9 कौन सा शहर चंबल नदी के किनारे पर स्थित नहीं है?

Ans ✗ 1. कोटा

✗ 2. धौलपुर

✓ 3. जबलपुर

✗ 4. ग्वालियर

Question ID : 9895807422

Chosen Option : 4

Q.4
0 आर्थिक सर्वेक्षण रिपोर्ट 2017-18 में FY18 में कृषि वृद्धि दर कितनी होने की सम्भावना बताई गई थी?

Ans ✗ 1. 3.90%

✗ 2. 4.30%

✓ 3. 2.10%

✗ 4. 5.50%

Question ID : 9895807411

Chosen Option : 4

Q.4
1 ग्रेट ब्रिटेन की संसद का कौन सा कानून भारत में ईस्ट इंडिया कंपनी के शासन की पूरी जांच और मरम्मत करने की और लक्षित था?

Ans ✗ 1. 1861 का भारतीय परिषद अधिनियम

✗ 2. 1858 का भारत सरकार अधिनियम

✓ 3. रेगुलेटिंग एक्ट 1773

✗ 4. पिट्स इंडिया एक्ट

Question ID : 9895807416

Chosen Option : 3

Q.4
2 2001 में मिस अर्थ सौंदर्य स्पर्धा के आरम्भ से इसे जीतने वाली पहली भारतीय कौन है?

Ans ✗ 1. दिया मिर्जा

✗ 2. रीता फारिया

✓ 3. निकोल फारिया

✘ 4. प्रियंका चोपड़ा

Question ID : 9895807410
Chosen Option : 4

Q.4 संकर किस्म की ज्वार के लिए 2018-19 के लिए न्यूनतम समर्थन मूल्य कितना निर्धारित किया गया है?

- Ans
- ✘ 1. ₹5,150 प्रति क्विंटल
 - ✘ 2. ₹1,750 प्रति क्विंटल
 - ✘ 3. ₹1,950 प्रति क्विंटल
 - ✔ 4. ₹2,430 प्रति क्विंटल

Question ID : 9895807413
Chosen Option : 2

Q.4 हमारी सौर प्रणाली में दूसरा सबसे बड़ा चंद्रमा टाइटन किस ग्रह की परिक्रमा करता है?

- Ans
- ✔ 1. शनि (सैटर्न)
 - ✘ 2. अरुण (यूरेनस)
 - ✘ 3. वरुण (नेपचून)
 - ✘ 4. बृहस्पति (जूपिटर)

Question ID : 9895807424
Chosen Option : 1

Q.4 नागरिकों के मूल अधिकार भारतीय संविधान के किस भाग में सम्मिलित किए गए हैं?

- Ans
- ✔ 1. भाग III
 - ✘ 2. भाग I
 - ✘ 3. भाग IVA
 - ✘ 4. भाग VII

Question ID : 9895807415
Chosen Option : 3

Q.4 1970 के भोला चक्रवात के बाद बंगाल की खाड़ी में कौन सा द्वीप उभर कर आया?

- Ans
- ✘ 1. घोरमारा द्वीप
 - ✔ 2. न्यू मूर द्वीप
 - ✘ 3. जंबूद्वीप
 - ✘ 4. लोहाचारा द्वीप

Question ID : 9895807423

Q.4
7 2018 का फ्रेन्च ओपन पुरुष टेनिस किसने जीता?

- Ans
- 1. रोजर फेडरर
 - 2. नोवाक जोकोविच
 - 3. रफेल नाडाल
 - 4. एंडी मुरे

Question ID : 9895807407
Chosen Option : 2

Q.4
8 भारत रत्न प्राप्त करने वाले उस व्यक्ति का नाम बताइए, जो एक समाज सुधारक और शिक्षक थे और जिन्होंने स्त्रियों के उत्थान में महत्वपूर्ण भूमिका निभाई थी।

- Ans
- 1. बिधान चंद्र राँय
 - 2. गोविंद बल्लभ पंत
 - 3. एम विश्वेश्वरैया
 - 4. धोंडो केशव कर्वे

Question ID : 9895807408
Chosen Option : 2

Q.4
9 फसल से जुड़ा हुआ उत्सव, पुठारी किस जनजाति द्वारा मनाया जाता है?

- Ans
- 1. कोडावा
 - 2. अंगामी
 - 3. गारो
 - 4. मोनपा

Question ID : 9895807404
Chosen Option : 3

Q.5
0 मणिपुर के सामान्य तौर पर लोगों के समूह द्वारा गाए जाने वाले भक्तिपूर्ण लोक संगीत का नाम बताइए।

- Ans
- 1. खुबाक एशेई
 - 2. डोमकच
 - 3. बनवर्ह
 - 4. घा तो कितो

Question ID : 9895807403
Chosen Option : 4

Q.5
1 ओम प्रकाश 80 km/hr की गति से बम्बई से पुणे की यात्रा करता है और अपनी गति को 50% बढ़ाकर वापस बम्बई लौटता है, तो पूरी यात्रा के लिए उसकी औसत गति है:

- Ans
- 1. 69 km/hr
 - 2. 67 km/hr
 - 3. 96 km/hr
 - 4. 65 km/hr

Question ID : 9895807745
Chosen Option : 3

Q.5 विशाल 30 min में 20 km की दूरी तय करता है। यदि वह 18 min में आधी दूरी तय करता है, तो शेष दूरी को तय करने के लिए और पूरी यात्रा 30 min में पूरी करने के लिए उसकी गति क्या होनी चाहिए।

- Ans
- 1. 50 km/hr
 - 2. 55 km/hr
 - 3. 65 km/hr
 - 4. 60 km/hr

Question ID : 9895807746
Chosen Option : 3

Q.5 यदि 15 श्रमिक 10 दिनों में ₹1,800 कमा सकते हैं। तो 8 दिनों में 5 श्रमिकों की कमाई (₹ में) कितनी होगी?

- Ans
- 1. ₹480
 - 2. ₹540
 - 3. ₹400
 - 4. ₹360

Question ID : 9895807743
Chosen Option : 1

Q.5 A, एक कामगार के रूप में B से दोगुना अच्छा है और एक साथ मिलकर वे 20 दिनों में एक काम पूरा कर लेते हैं। A अकेले कितने दिनों में, काम पूरा करेगा?

- Ans
- 1. 25 दिन
 - 2. 26 दिन
 - 3. 30 दिन
 - 4. 28 दिन

Question ID : 9895807744
Chosen Option : 3

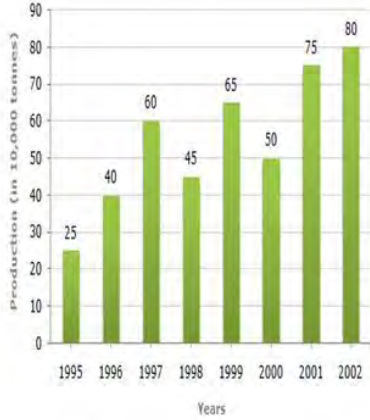
Q.5 वह सबसे छोटी संख्या कौन सी है जिसमें 8 जोड़ने पर 4, 5, 6 और 7 से पूर्ण रूप से विभाज्य हो?

- Ans
- 1. 312
 - 2. 322
 - 3. 422
 - 4. 412

Q.5 6 बार चार्ट का अध्ययन करें और इस पर आधारित प्रश्न का उत्तर दें।

वर्षों में कंपनी द्वारा उर्वरकों का

उत्पादन (1000 टन में)



1999 और 2000 का औसत उत्पादन निम्न में से किस वर्ष युग्म के औसत उत्पादन से कम था?

- Ans
- 1. 1995 और 2001
 - 2. 2000 और 2001
 - 3. 1998 और 2000
 - 4. 1996 और 1997

Q.5 7 उन वर्षों की संख्या जात करें जिनमें 8% प्रति वर्ष की साधारण ब्याज दर निवेश की गई एक राशि दोगुनी हो जाती है।

- Ans
- 1. 11 वर्ष
 - 2. 12 वर्ष
 - 3. 12 ½ वर्ष
 - 4. 10 ½ वर्ष

Q.5 8 सरलीकृत करें:

$$\frac{5.25 + \frac{3}{4} \text{ of } 16 - 5}{\frac{1}{2} \text{ of } (9.5 - 2.5) - (5 \times 0.35)}$$

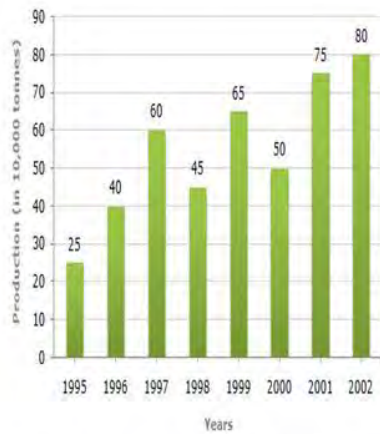
- Ans
- 1. 5
 - 2. 6
 - 3. 7
 - 4. 4

Question ID : 9895807730
Chosen Option : 3

Q.5 बार चार्ट का अध्ययन करें और इस पर आधारित प्रश्न का उत्तर दें।

वर्षों में कंपनी द्वारा उर्वरकों का

उत्पादन (1000 टन में)



दिए गए वर्षों में से कितने में उर्वरकों का उत्पादन दिए गए वर्षों के औसत उत्पादन से कम था?

- Ans
- 1. 1
 - 2. 3
 - 3. 2
 - 4. 4

Question ID : 9895807751
Chosen Option : 4

Q.6 एक कपड़ा 50 cm चौड़ा और 8 cm लंबा था। जब धोया गया, तो इसकी लंबाई 25% और इसकी चौड़ाई 14% कम हो गई। तो क्षेत्रफल कितने प्रतिशत कम हुआ?

- Ans
- 1. 36%
 - 2. 35.5%
 - 3. 35%
 - 4. 34.5%

Question ID : 9895807749
Chosen Option : 3

Q.6 यदि कोई दुकानदार एक पुस्तक पर पहले 20% और फिर 15% की छूट देता है, जिसका अंकित मूल्य ₹850 है, तो पुस्तक का विक्रय मूल्य कितना होगा?

Ans

- 1. ₹785
- 2. ₹578
- 3. ₹758
- 4. ₹587

Question ID : 9895807733
Chosen Option : 2

Q.6
2 सरलीकृत करें:

$$7.8 - 0.4 \text{ of } (5.1 - 3.8) + 9.3 \times 1.5$$

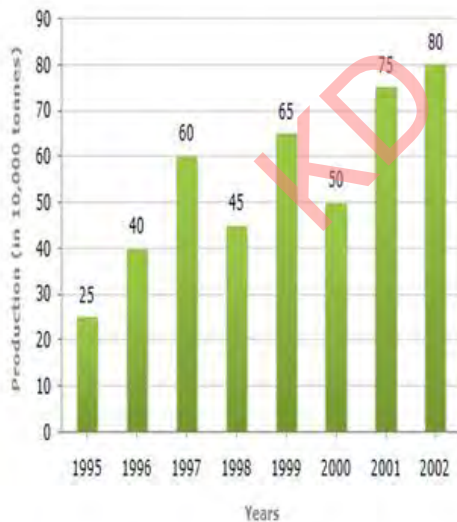
- Ans
- 1. 21.23
 - 2. 23.21
 - 3. 12.23
 - 4. 23.12

Question ID : 9895807729
Chosen Option : 2

Q.6
3 बार चार्ट का अध्ययन करें और इस पर आधारित प्रश्न का उत्तर दें।

वर्षों में कंपनी द्वारा उर्वरकों का

उत्पादन (1000 टन में)



2000 की तुलना में 2001 में उर्वरकों के उत्पादन में प्रतिशत वृद्धि कितनी थी?

- Ans
- 1. 50%
 - 2. 40%
 - 3. 25%
 - 4. 30%

Question ID : 9895807750

Chosen Option : 2

Q.6 सोना एल्यूमीनियम की तुलना में 12 गुना भारी है और तांबा एल्यूमीनियम की तुलना में 5 गुना भारी है। तो एल्यूमीनियम की 8 गुना मिश्र धातु प्राप्त करने के लिए किस अनुपात में सोना और तांबा मिश्रित होना चाहिए।

- Ans
- 1. 3 : 4
 - 2. 1 : 2
 - 3. 4 : 3
 - 4. 2 : 1

Question ID : 9895807739

Chosen Option : 2

Q.6 यदि A, B, C को $A : B = 1 : 2$ और $B : C = 3 : 5$ के रूप में ₹3,800 वितरित किए जाते हैं, तो B का हिस्सा ज्ञात करें:

- Ans
- 1. ₹1,400
 - 2. ₹2,000
 - 3. ₹1,200
 - 4. ₹600

Question ID : 9895807740

Chosen Option : 4

Q.6 60 लीटर के मिश्रण में, दूध और पानी 2:1 के अनुपात में हैं, तो 4:3 का अनुपात करने के लिए मिलाये जाने वाले पानी की मात्रा ज्ञात कीजिए।

- Ans
- 1. 12 लीटर
 - 2. 10 लीटर
 - 3. 20 लीटर
 - 4. 15 लीटर

Question ID : 9895807738

Chosen Option : 4

Q.6 ₹84,000 में खरीदे गए एक स्कूटर का मूल्य 10% प्रति वर्ष की दर से कम होता है। 2 वर्ष बाद इसका मूल्य क्या होगा?

- Ans
- 1. ₹46080
 - 2. ₹64800
 - 3. ₹86040
 - 4. ₹68040

Question ID : 9895807742

Chosen Option : 2

Q.6 यदि एक वर्ग की सभी भुजाओं में 20% की वृद्धि की जाती है, तो क्षेत्रफल में कितनी वृद्धि हो जाती है?

- Ans 1. 44%
2. 43%
3. 46%
4. 45%

Question ID : 9895807748
Chosen Option : 1

Q.6 12 पदों में से, पहले 6 पदों का औसत 36 है और अंतिम 6 पदों का औसत 42 है। यदि पहले 11 पदों का औसत 38 है, तो 12 वां पद क्या होगा।

- Ans 1. 40
2. 50
3. 42
4. 44

Question ID : 9895807732
Chosen Option : 2

Q.7 एक घनाकार टंकी में 48000 लीटर पानी है। यदि टंकी की लंबाई 6 m और चौड़ाई 4 m है तो टंकी में पानी की गहराई ज्ञात करें।

- Ans 1. 6 m
2. 3 m
3. 2 m
4. 4 m

Question ID : 9895807747
Chosen Option : 3

Q.7 पाँच क्रमागत सम संख्याओं का योग, उन संख्याओं के औसत से 40 अधिक है। तो श्रृंखला में मध्य संख्या ज्ञात कीजिए।

- Ans 1. 20
2. 40
3. 10
4. 30

Question ID : 9895807731
Chosen Option : 1

Q.7 मंजीत सिंह ने लागत मूल्य के $\frac{1}{5}$ मुनाफे पर ₹9,000 में एक वस्तु बेची, तो लाभ प्रतिशत ज्ञात कीजिए।

- Ans 1. 10%
2. 20%
3. 22%
4. 25%

Question ID : 9895807736
Chosen Option : 2

Q.7 A और B के बीच एक चुनावी प्रतियोगिता में, A 480 वोटों के अंतर से जीतता है। यदि A को कुल वोटों का 70% वोट मिले, तो कुल वोट हैं :

- Ans
- 1. 1200
 - 2. 4800
 - 3. 1400
 - 4. 1600

Question ID : 9895807735
Chosen Option : 4

Q.7 एक व्यापारी का दावा है कि वह लागत मूल्य में अपना माल बेचता है। लेकिन 1kg वजन के लिए 900 g के वजन का उपयोग करता है, तो उसका लाभ प्रतिशत कितना होगा।

- Ans
- 1. $11\frac{1}{9}\%$
 - 2. 11%
 - 3. $12\frac{1}{9}\%$
 - 4. 12%

Question ID : 9895807737
Chosen Option : 2

Q.7 A, b, c, d और e का माध्य 36 है। यदि b, d और e का माध्य 32 है, तो a और c का माध्य क्या होगा?

- Ans
- 1. 44
 - 2. 46
 - 3. 42
 - 4. 24

Question ID : 9895807734
Chosen Option : 3

Section : English Language

Q.1 From the given options, identify the segment in the sentence which contains the grammatical error.

In India, child labour is a socio - economic issue that need urgent attention by everyone.

- Ans
- 1. by everyone.
 - 2. that need urgent attention
 - 3. socio - economic issue
 - 4. child labour is a

Question ID : 9895808062
Chosen Option : --

Q.2

Select the synonym of the given word.

RIDDLE

- Ans
- 1. Puzzle
 - 2. Game
 - 3. Response
 - 4. Reaction

Question ID : 9895808075
Chosen Option : --

Q.3 From the given options, identify the segment in the sentence which contains the grammatical error.

An excellent response for his readers refreshes the author and stirs his creative sense and functional skills.

- Ans
- 1. An excellent response
 - 2. his creative sense
 - 3. for his readers refreshes
 - 4. functional skills

Question ID : 9895808061
Chosen Option : --

Q.4 Select the most appropriate option to substitute the underlined segment in the given sentence. If there is no need to substitute it, select No improvement.

Your promotion will be depend the quality of your work.

- Ans
- 1. will be dependent
 - 2. No improvement
 - 3. depends upon
 - 4. depend on

Question ID : 9895808066
Chosen Option : --

Q.5 Select the antonym of the given word.

COMMENCE

- Ans
- 1. Clamp
 - 2. Pause
 - 3. Close
 - 4. Start

Question ID : 9895808077
Chosen Option : --

Q.6 Select the most appropriate option to substitute the underlined segment in the given sentence. If there is no need to substitute it, select No improvement.

While participating in the marathon an eighteen year old girl was knocked for by a passing truck.

- Ans
- 1. knocked in by
 - 2. No improvement
 - 3. knocked down by
 - 4. knocked up by

Question ID : 9895808064
Chosen Option : --

Q.7 Select the word which means the same as the group of words given.

A story, poem or a picture that can be interpreted to reveal a hidden meaning.

- Ans
- 1. Allegory
 - 2. Representation
 - 3. Resemblance
 - 4. Simile

Question ID : 9895808082
Chosen Option : --

Q.8 Select the option that means the same as the given idiom.

Bark up the wrong tree.

- Ans
- 1. To make no mistakes about doing something
 - 2. To send dogs to track someone
 - 3. To make dogs bark at cats hiding in trees
 - 4. To be wrong about the reason for or way of doing something

Question ID : 9895808080
Chosen Option : --

Q.9 Select the correctly spelt word.

- Ans
- 1. Audeuble
 - 2. Audiabile
 - 3. Audible
 - 4. Audibal

Question ID : 9895808084
Chosen Option : --

Q.10 Select the word which means the same as the group of words given.

Concerning appreciation of art.

Ans

- 1. Idealistic
- 2. Aesthetic
- 3. Poetic
- 4. Particularistic

Question ID : 9895808081
Chosen Option : --

Q.1
1 Select the antonym of the given word.

EXPAND

- Ans
- 1. Contract
 - 2. Express
 - 3. Deposit
 - 4. Collect

Question ID : 9895808078
Chosen Option : --

Q.1
2 Select the most appropriate word to fill in the blank.

A software tool used to read electronic documents is known as _____.

- Ans
- 1. browser
 - 2. motherboard
 - 3. broadband
 - 4. internet

Question ID : 9895808086
Chosen Option : --

Q.1
3 Select the synonym of the given word.

IMPLICIT

- Ans
- 1. Unclear
 - 2. Unheard
 - 3. Tacit
 - 4. Honest

Question ID : 9895808076
Chosen Option : --

Comprehension:

In the following passage some words have been deleted. Fill in the blanks with the help of the alternatives given.

Students should develop a quality of (1) _____ to elders and respecting their views. Their experience and knowledge can play a major role in shaping a student's personality and career. Students should (2) _____ this much - needed knowledge and experience from parents and teachers. Being (3) _____ helps students to keep themselves morally high. One should not get carried away by success. Students should also learn to respect (4) _____ views and cope with diverse situations. These qualities will play a vital role in the (5) _____ of teamwork and leadership skills.

SubQuestion No : 14

Q.1
4 Select the most appropriate option that will fill in the blank number 1.

- Ans
- 1. listening
 - 2. listened
 - 3. listens
 - 4. listen

Question ID : 9895808070
Chosen Option : --

Comprehension:

In the following passage some words have been deleted. Fill in the blanks with the help of the alternatives given.

Students should develop a quality of (1) _____ to elders and respecting their views. Their experience and knowledge can play a major role in shaping a student's personality and career. Students should (2) _____ this much - needed knowledge and experience from parents and teachers. Being (3) _____ helps students to keep themselves morally high. One should not get carried away by success. Students should also learn to respect (4) _____ views and cope with diverse situations. These qualities will play a vital role in the (5) _____ of teamwork and leadership skills.

SubQuestion No : 15

Q.1
5 Select the most appropriate option that will fill in the blank number 2.

- Ans
- 1. measure
 - 2. access
 - 3. assess
 - 4. acquire

Question ID : 9895808071
Chosen Option : --

Comprehension:

In the following passage some words have been deleted. Fill in the blanks with the help of the alternatives given.

Students should develop a quality of (1) _____ to elders and respecting their views. Their experience and knowledge can play a major role in shaping a student's personality and career. Students should (2) _____ this much - needed knowledge and experience from parents and teachers. Being (3) _____ helps students to keep themselves morally high. One should not get carried away by success. Students should also learn to respect (4) _____ views and cope with diverse situations. These qualities will play a vital role in the (5) _____ of teamwork and leadership skills.

SubQuestion No : 16

Q.1
6 Select the most appropriate option that will fill in the blank number 3.

- Ans
- 1. intelligent
 - 2. simple
 - 3. sharp
 - 4. smart

Question ID : 9895808072
Chosen Option : --

Comprehension:

In the following passage some words have been deleted. Fill in the blanks with the help of the alternatives given.

Students should develop a quality of (1) _____ to elders and respecting their views. Their experience and knowledge can play a major role in shaping a student's personality and career. Students should (2) _____ this much - needed knowledge and experience from parents and teachers. Being (3) _____ helps students to keep themselves morally high. One should not get carried away by success. Students should also learn to respect (4) _____ views and cope with diverse situations. These qualities will play a vital role in the (5) _____ of teamwork and leadership skills.

SubQuestion No : 17

Q.1
7 Select the most appropriate option that will fill in the blank number 4.

- Ans
- 1. general
 - 2. different
 - 3. expressive
 - 4. typical

Question ID : 9895808073
Chosen Option : --

Comprehension:

In the following passage some words have been deleted. Fill in the blanks with the help of the alternatives given.

Students should develop a quality of (1) _____ to elders and respecting their views. Their experience and knowledge can play a major role in shaping a student's personality and career. Students should (2) _____ this much - needed knowledge and experience from parents and teachers. Being (3) _____ helps students to keep themselves morally high. One should not get carried away by success. Students should also learn to respect (4) _____ views and cope with diverse situations. These qualities will play a vital role in the (5) _____ of teamwork and leadership skills.

SubQuestion No : 18

Q.1
8 Select the most appropriate option that will fill in the blank number 5.

- Ans**
- 1. development
 - 2. structure
 - 3. manufacture
 - 4. arrangement

Question ID : 9895808074
Chosen Option : --

Q.1
9 Select the most appropriate option to substitute the underlined segment in the given sentence. If there is no need to substitute it, select No improvement.

The National Sample Survey Directorate is first set up under the Ministry of Finance in 1950.

- Ans**
- 1. Directorate had first set up
 - 2. Directorate was first set up
 - 3. Directorate were first set up
 - 4. No improvement

Question ID : 9895808065
Chosen Option : --

Q.2
0 Select the option that means the same as the given idiom.

To bite off more than you can chew.

- Ans**
- 1. To finish a work in bits and pieces
 - 2. To eat very heavy and rich food
 - 3. To challenge someone to do difficult work
 - 4. To take on a task too big for oneself

Question ID : 9895808079
Chosen Option : --

Q.2
1 Select the correctly spelt word.

- Ans
- 1. Vegetarian
 - 2. Vegetaranian
 - 3. Vegaitarian
 - 4. Vezetarian

Question ID : 9895808083
Chosen Option : --

Q.2
2 From the given options, identify the segment in the sentence which contains the grammatical error.

A mere 43% of Indian woman own cellular phones, as opposed to almost 80% of men.

- Ans
- 1. own cellular phones
 - 2. as opposed to
 - 3. A mere 43% of Indian woman
 - 4. almost 80% of men

Question ID : 9895808063
Chosen Option : --

Q.2
3 Select the most appropriate word to fill in the blank.

The news of the general elections was covered by _____ media.

- Ans
- 1. singular
 - 2. single
 - 3. multiple
 - 4. sole

Question ID : 9895808085
Chosen Option : --

Q.2
4 Select the most appropriate option to fill in the blank.

People high in humility avoid expecting _____ special treatment.

- Ans
- 1. any
 - 2. only
 - 3. none
 - 4. one

Question ID : 9895808067
Chosen Option : --

Q.2
5 Select the most appropriate option to fill in the blank.

Online shopping platforms provide _____ information on books, groceries, medicines, etc. so that we can get the latest products.

- Ans
- 1. instant
 - 2. old
 - 3. previous
 - 4. timeworn

Question ID : 9895808068
Chosen Option : --

Section : Hindi Language

Q.1 रिक्त स्थान को भरने के लिए उपयुक्त शब्द का चयन करें।

राजा हर्षवर्धन _____ करके लौटे।

- Ans
- 1. चोरी
 - 2. नाटक
 - 3. नृत्य
 - 4. दिग्विजय

Question ID : 9895806846
Chosen Option : 4

Q.2 दिए गए शब्द के पर्यायवाची शब्द का चयन करें।

तालाब

- Ans
- 1. बाग
 - 2. पोखर
 - 3. समुद्र
 - 4. अरि

Question ID : 9895806857
Chosen Option : 2

Q.3 निम्नलिखित में से उस विकल्प का चयन करें जो 'एक ही राग अलापना' मुहावरे का अर्थ व्यक्त करता है।

- Ans
- 1. कोई बात एक ही बार कहना
 - 2. एक ही बात बार-बार कहना
 - 3. कई बात एक साथ कहना
 - 4. सुर में सुर मिलाना

Question ID : 9895806859
Chosen Option : 4

Q.4

दिए गए शब्द का विलोम चुनें।

खरा

- Ans
- 1. खोटा
 - 2. साफ
 - 3. सोना
 - 4. सरल

Question ID : 9895806856
Chosen Option : 1

Q.5 सही वर्तनी वाले शब्द का चयन करें।

- Ans
- 1. अभीशेक
 - 2. अभिशेक
 - 3. अभीषेक
 - 4. अभिषेक

Question ID : 9895806863
Chosen Option : 4

Q.6 सही वर्तनी वाले शब्द का चयन करें।

- Ans
- 1. विस्तार
 - 2. विसतार
 - 3. वीसतार
 - 4. वीस्तार

Question ID : 9895806864
Chosen Option : 1

Q.7 दिए गए वाक्य में रेखांकित खंड को प्रतिस्थापित करने के लिए उपयुक्त विकल्प का चयन करें।

पुराने समय में कपोत एक बहुत ही अच्छा संदेशक माना जाता था।

- Ans
- 1. कोयल
 - 2. अश्व
 - 3. कबूतर
 - 4. डाकिया

Question ID : 9895806843
Chosen Option : 3

Q.8

दिये गये वाक्यांश के लिए एक शब्द दीजिये।

अच्छे चरित्र वाला

- Ans
- 1. चरित्रहीन
 - 2. दुष्चरित्र
 - 3. चरित्रवान
 - 4. व्यभिचारी

Question ID : 9895806861
Chosen Option : 3

Q.9 रिक्त स्थान को भरने के लिए उपयुक्त शब्द का चयन करें।

मनुष्य को अपनी _____ नहीं छोड़नी चाहिए।

- Ans
- 1. अभिमान
 - 2. बचपन
 - 3. क्रोध
 - 4. मनुष्यता

Question ID : 9895806845
Chosen Option : 4

Q.10 रिक्त स्थान को भरने के लिए उपयुक्त शब्द का चयन करें।

मैं कलम से चिढ़ी _____ रहा हूँ।

- Ans
- 1. भेज
 - 2. सोच
 - 3. पढ़
 - 4. लिख

Question ID : 9895806848
Chosen Option : 4

Q.11 रिक्त स्थान को भरने के लिए उपयुक्त शब्द का चयन करें।

भगवान सबका _____ करे।

- Ans
- 1. भली
 - 2. कृपा
 - 3. भला
 - 4. दया

Q.1
2 दिए गए वाक्य का वह भाग ज्ञात करें जिसमें कोई त्रुटि है।

अच्छे आभूषणों के द्वारा शरीर की शोभा बढ़ जाता है ।

- Ans
- 1. के द्वारा
 - 2. अच्छे आभूषणों
 - 3. बढ़ जाता है।
 - 4. शरीर की शोभा

Comprehension:

निम्नलिखित गद्यांश के रिक्त स्थानों की पूर्ति गद्यांश के नीचे दिए गए प्रश्नों के अनुसार कीजिए-

होली के पर्व के पीछे एक लोकप्रिय पौराणिक _____ (1) है।

हिरण्यकश्यप एक राक्षस राजा था। उसका एक बेटा था जिसका नाम प्रह्लाद था। _____ (2) भगवन विष्णु का भक्त था। ये बात उसके पिता को पसंद नहीं थी। पिता के कई बार _____ (3) के बाद भी प्रह्लाद ने अपनी विष्णु भक्ति नहीं छोड़ी। हिरण्यकश्यप ने अपने ही बेटे को कई तरह की सजायें दी _____ (4) ईश्वर की कृपा से वह हर बार बच जाता था। एक दिन क्रोधित _____ (5) हिरण्यकश्यप ने अपनी बहन होलिका को अपने बेटे का वध करने के लिए बुलाया।

SubQuestion No : 13

Q.1
3 गद्यांश में संकेतित रिक्त स्थान (1) के लिए उपयुक्त शब्द होगा।

- Ans
- 1. दर्शन
 - 2. निबंध
 - 3. कविता
 - 4. कथा

Comprehension:

निम्नलिखित गद्यांश के रिक्त स्थानों की पूर्ति गद्यांश के नीचे दिए गए प्रश्नों के अनुसार कीजिए-

होली के पर्व के पीछे एक लोकप्रिय पौराणिक _____ (1) है।

हिरण्यकश्यप एक राक्षस राजा था। उसका एक बेटा था जिसका नाम प्रह्लाद था। _____ (2) भगवन विष्णु का भक्त था। ये बात उसके पिता को पसंद नहीं थी। पिता के कई बार _____ (3) के बाद भी प्रह्लाद ने अपनी विष्णु भक्ति नहीं छोड़ी। हिरण्यकश्यप ने अपने ही बेटे को कई तरह की सजायें दी _____ (4) ईश्वर की कृपा से वह हर बार बच जाता था। एक दिन क्रोधित _____ (5) हिरण्यकश्यप ने अपनी बहन होलिका को अपने बेटे का वध करने के लिए बुलाया।

SubQuestion No : 14

Q.1
4 गद्यांश में संकेतित रिक्त स्थान (2) के लिए उपयुक्त शब्द होगा।

- Ans
- 1. उसने
 - 2. उन्होंने
 - 3. वह
 - 4. वे

Question ID : 9895806851
Chosen Option : 3

Comprehension:

निम्नलिखित गद्यांश के रिक्त स्थानों की पूर्ति गद्यांश के नीचे दिए गए प्रश्नों के अनुसार कीजिए-

होली के पर्व के पीछे एक लोकप्रिय पौराणिक _____ (1) है।

हिरण्यकश्यप एक राक्षस राजा था। उसका एक बेटा था जिसका नाम प्रह्लाद था। _____ (2) भगवन विष्णु का भक्त था। ये बात उसके पिता को पसंद नहीं थी। पिता के कई बार _____ (3) के बाद भी प्रह्लाद ने अपनी विष्णु भक्ति नहीं छोड़ी। हिरण्यकश्यप ने अपने ही बेटे को कई तरह की सजायें दी _____ (4) ईश्वर की कृपा से वह हर बार बच जाता था। एक दिन क्रोधित _____ (5) हिरण्यकश्यप ने अपनी बहन होलिका को अपने बेटे का वध करने के लिए बुलाया।

SubQuestion No : 15

Q.1
5 गद्यांश में संकेतित रिक्त स्थान (3) के लिए उपयुक्त शब्द होगा।

- Ans
- 1. दुलार करने
 - 2. निवेदन करने

3. प्यार करने

4. समझाने

Question ID : 9895806852
Chosen Option : 4

Comprehension:

निम्नलिखित गद्यांश के रिक्त स्थानों की पूर्ति गद्यांश के नीचे दिए गए प्रश्नों के अनुसार कीजिए-

होली के पर्व के पीछे एक लोकप्रिय पौराणिक _____ (1) है।

हिरण्यकश्यप एक राक्षस राजा था। उसका एक बेटा था जिसका नाम प्रह्लाद था। _____ (2) भगवन विष्णु का भक्त था। ये बात उसके पिता को पसंद नहीं थी। पिता के कई बार _____ (3) के बाद भी प्रह्लाद ने अपनी विष्णु भक्ति नहीं छोड़ी। हिरण्यकश्यप ने अपने ही बेटे को कई तरह की सजायें दी _____ (4) ईश्वर की कृपा से वह हर बार बच जाता था। एक दिन क्रोधित _____ (5) हिरण्यकश्यप ने अपनी बहन होलिका को अपने बेटे का वध करने के लिए बुलाया।

SubQuestion No : 16

Q.1
6 गद्यांश में संकेतित रिक्त स्थान (4) के लिए उपयुक्त शब्द होगा।

Ans 1. परन्तु

2. अतः

3. इसलिए

4. क्योंकि

Question ID : 9895806853
Chosen Option : 1

Comprehension:

निम्नलिखित गद्यांश के रिक्त स्थानों की पूर्ति गद्यांश के नीचे दिए गए प्रश्नों के अनुसार कीजिए-

होली के पर्व के पीछे एक लोकप्रिय पौराणिक _____ (1) है।

हिरण्यकश्यप एक राक्षस राजा था। उसका एक बेटा था जिसका नाम प्रह्लाद था। _____ (2) भगवन विष्णु का भक्त था। ये बात उसके पिता को पसंद नहीं थी। पिता के कई बार _____ (3) के बाद भी प्रह्लाद ने अपनी विष्णु भक्ति नहीं छोड़ी। हिरण्यकश्यप ने अपने ही बेटे को कई तरह की सजायें दी _____ (4) ईश्वर की कृपा से वह हर बार बच जाता था। एक दिन क्रोधित _____ (5) हिरण्यकश्यप ने अपनी बहन होलिका को अपने बेटे का वध करने के लिए बुलाया।

SubQuestion No : 17

Q.1
7 गद्यांश में संकेतित रिक्त स्थान (5) के लिए उपयुक्त शब्द होगा।

- Ans
- 1. बनकर
 - 2. होकर
 - 3. लगकर
 - 4. चलकर

Question ID : 9895806854

Chosen Option : 2

Q.1
8 निम्नलिखित में से उस विकल्प का चयन करें जो 'रंगा सियार' मुहावरे का अर्थ व्यक्त करता है।

- Ans
- 1. एक समान
 - 2. रँगा हुआ सियार
 - 3. धोखे बाज
 - 4. सुंदर सियार

Question ID : 9895806860

Chosen Option : 3

Q.1
9 दिए गए शब्द के पर्यायवाची शब्द का चयन करें।

विपदा

- Ans
- 1. मनीषी
 - 2. आपदा
 - 3. सुख
 - 4. निरपराध

Question ID : 9895806858

Chosen Option : 2

Q.2
0 दिये गये वाक्यांश के लिए एक शब्द दीजिये।

लेख की नकल

- Ans
- 1. नकलची
 - 2. प्रतिलिपि
 - 3. लिपि
 - 4. हस्तलिपि

Question ID : 9895806862

Chosen Option : 2

Q.2
1 दिए गए वाक्य का वह भाग ज्ञात करें जिसमें कोई त्रुटि है।

विद्यालय में पढ़ाई करने के लिए अनेकों छात्र आए हुए थे।

Ans 1. आए हुए थे।

2. अनेकों छात्र

3. पढ़ाई करने के लिए

4. विद्यालय में

Question ID : 9895806841

Chosen Option : 2

Q.2
2 दिए गए वाक्य का वह भाग ज्ञात करें जिसमें कोई त्रुटि है।

मुख्य अतिथि का एक फूल की माला पहना कर स्वागत किया गया।

Ans 1. मुख्य अतिथि का

2. स्वागत किया गया

3. एक फूल की माला

4. पहना कर

Question ID : 9895806839

Chosen Option : 3

Q.2
3 दिए गए शब्द का विलोम चुनें।

ऐश्वर्य

Ans 1. भक्ति

2. शक्ति

3. शान

4. दरिद्रता

Question ID : 9895806855

Chosen Option : 4

Q.2
4 दिए गए वाक्य में रेखांकित खंड को प्रतिस्थापित करने के लिए उपयुक्त विकल्प का चयन करें।

धरणी पर बहुत सारी प्राकृतिक घटनाएं होती रहती हैं।

Ans 1. पृथ्वी

2. भुजंग

3. समूह

4. वृक्ष

Question ID : 9895806842
Chosen Option : 1

Q.2
5 दिए गए वाक्य में रेखांकित खंड को प्रतिस्थापित करने के लिए उपयुक्त विकल्प का चयन करें।

कबीर बहुत सी भाषाएँ जानता है।

Ans

1. बहुज्ञ
 2. भाषावैज्ञानिक
 3. बहुभाषाविद्
 4. तत्व चिन्तक

Question ID : 9895806844
Chosen Option : 3

KD Job Updates

Constable (GD) in CAPFs, NIA, SSF and Rifleman (GD) in Assam Rifles Examination, 2018

Roll No. :	
Registration No.	
Name :	
Exam Venue :	
Exam Time :	9:00 AM - 10:30 AM
Exam Date :	05/03/2019

Section : General Section

Q.1 उस सही विकल्प का चयन करें जो रिक्त स्थान की पूर्ति करते हुए श्रृंखला को पूरा करे।

YEB, XFD, WGF,?

- Ans
- 1. UEG
 - 2. VHD
 - 3. DHV
 - 4. VHH

Question ID : 9895808364

Chosen Option : 4

Q.2 यदि 'PANT' को 51 के रूप में कूटबद्ध किया जाता है, तो 'DOGS' के लिए कूट क्या होगा?

- Ans
- 1. 52
 - 2. 45
 - 3. 49
 - 4. 44

Question ID : 9895808371

Chosen Option : 2

Q.3 सात मॉडलस A, B, C, D, E, F और G एक फोटोग्राफी सेशन के लिए फोटोग्राफर के सामने हैं। D, G के बिलकुल दाएँ ओर खड़ा है। B, D और F के बीच में खड़ा है। A, C के बिलकुल दाएँ ओर खड़ा है। E, G और A के बीच में खड़ा है।

बीच में कौन खड़ा है?

- Ans
- 1. G
 - 2. E
 - 3. A
 - 4. D

Question ID : 9895808372

Chosen Option : 1

Q.4

यदि एक दर्पण उत्तर दिशा में रखा गया है, तो दी गई उत्तर आकृतियों में से कौन सी आकृति प्रश्न आकृति का सही प्रतिबिंब है।



Ans

1.



2.



3.



4.



Question ID : 9895808386
Chosen Option : 4

Q.5 उस विकल्प का चयन करें जो सही रूप में रिक्त स्थान की पूर्ति करते हुए श्रृंखला को पूरा करें।

145, 290, 580, 1160, ?

Ans

1.

2310

2.

2320

3.

2215

4.

2420

Question ID : 9895808377
Chosen Option : 2

Q.6 उस विकल्प का चयन करें जो तीसरे पद से उसी तरह संबंधित है जिस प्रकार पहला पद दूसरे पद से संबंधित है।

बल्लख : कुड़कुड़ाना :: पक्षी : ?

Ans

1.

गुनगुनाहट

2.

चहचहाना

3.

चिल्लाना

4.

काँ काँ

Question ID : 9895808368
Chosen Option : 2

Q.7 चार शब्द दिए गए हैं, जिनमें से तीन किसी तरह से समान हैं, जबकि एक अलग है। असंगत शब्द का चयन करें।

- Ans
- 1. COMIC
 - 2. SALES
 - 3. SHOES
 - 4. TOUCH

Question ID : 9895808366
Chosen Option : 4

Q.8 चार विकल्प दिए गए हैं, जिनमें से तीन किसी तरह से समान हैं, जबकि एक अलग है। असंगत का चयन करें।

- Ans
- 1. 22,33
 - 2. 10,15
 - 3. 18,27
 - 4. 16,21

Question ID : 9895808380
Chosen Option : 4

Q.9 उस विकल्प का चयन करें जो सही रूप में रिक्त स्थान की पूर्ति करते हुए श्रृंखला को पूरा करें।

2, 2, 3, 6, 15, ?

- Ans
- 1. 25
 - 2. 45
 - 3. 30
 - 4. 35

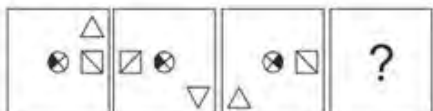
Question ID : 9895808378
Chosen Option : 2

Q.1 A, B की तुलना में अधिक बुद्धिमान है। C, B से अधिक बुद्धिमान नहीं है। D, E की तुलना में अधिक बुद्धिमान है परन्तु A से अच्छा नहीं है। सबसे बुद्धिमान कौन है?

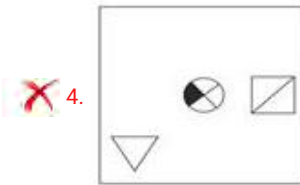
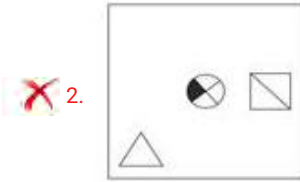
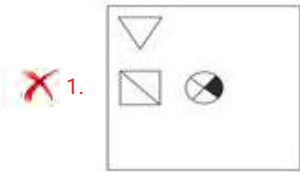
- Ans
- 1. A
 - 2. E
 - 3. B
 - 4. D

Question ID : 9895808373
Chosen Option : 1

Q.1 किस विकल्प की आकृति प्रश्न के आकृति-श्रृंखला को पूरा करेगी?



Ans

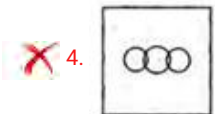
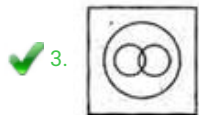
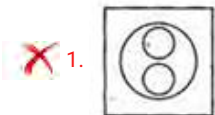


Question ID : 9895808383
Chosen Option : 1

Q.1 वेन आरेख का चयन करें जो दिए गए तीन वर्गों के बीच के संबंध को सर्वोत्तम दर्शाता है।

पुरुष, पिता, भाई

Ans



Question ID : 9895808388
Chosen Option : 1

Q.1
3

नीचे दिए गए कथनों के बाद चार निष्कर्ष I, II, III और IV दिए गए हैं। यह मानते हुए कि कथनों में दी गई जानकारी सत्य है, भले ही वह सर्वज्ञात तथ्यों से भिन्न प्रतीत होती हो, तय करें कि कौन सा/ से निष्कर्ष तार्किक और निश्चित रूप से कथन में दी गई जानकारी का अनुसरण करता है/करते हैं।

कथन:

सभी प्रेरक, संधारित्र हैं।

कुछ प्रतिरोधक, प्रेरक हैं।

सभी परमाणु संख्या, प्रतिरोधक हैं।

निष्कर्ष:

- I. सभी परमाणु संख्या, संधारित्र हैं।
- II. कुछ परमाणु संख्या, संधारित्र हैं।
- III. कुछ संधारित्र, प्रतिरोधक हैं।
- IV. सभी प्रतिरोधक, संधारित्र हैं।

Ans

1. केवल I अनुसरण करता है।
2. केवल II अनुसरण करता है।
3. केवल I और III अनुसरण करता है।
4. केवल III अनुसरण करता है।

Question ID : 9895808375

Chosen Option : 4

Q.1 4 उस विकल्प का चयन करें जो तीसरे पद से उसी तरह संबंधित है जिस प्रकार दूसरा पद पहले पद से संबंधित है।

412 : 49 :: 361 : ?

Ans

1. 120
2. 82
3. 100
4. 144

Question ID : 9895808379

Chosen Option : 3

Q.1 5 चार अक्षर समूह दिए गए हैं, जिनमें से तीन किसी तरह से समान हैं, जबकि एक अलग है। असंगत अक्षर समूह का चयन करें।

Ans

1. DEF
2. HIK
3. CDE
4. EFG

Question ID : 9895808365

Chosen Option : 2

Q.1 6 यदि किसी निश्चित कूट भाषा में CAGE को BDFG के रूप में लिखा जाता है और NORMAL को MOXQDF के रूप में लिखा जाता है तो उसी कूट भाषा में GENERAL को किस प्रकार लिखा जाएगा?

Ans

1. MGGFFDX
2. BGIKLMK

3. FGDFXMG

4. FGMGXDF

Question ID : 9895808370
Chosen Option : 4

Q.1 नीचे दिए गए कथनों के बाद दो निष्कर्ष I और II दिए गए हैं। यह मानते हुए कि कथनों में दी गई जानकारी सत्य है, भले ही वह सर्वज्ञात तथ्यों से भिन्न प्रतीत होती हो, तय करें कि कौन सा/से निष्कर्ष तार्किक और निश्चित रूप से कथन में दी गई जानकारी का अनुसरण करता है/करते हैं।

कथन:

- I. कुछ कलमें पुस्तकें हैं।
- II. सभी पुस्तकें मंदिर हैं।

निष्कर्ष:

- I. सभी मंदिर कलमें हैं।
- II. कुछ कलमें मंदिर हैं।

Ans 1. I और II दोनों अनुसरण करते हैं।

2. केवल I अनुसरण करता है।

3. कोई अनुसरण नहीं करता है।

4. केवल II अनुसरण करता है।

Question ID : 9895808376
Chosen Option : 4

Q.1 उस विकल्प आकृति का चयन करें, जिसमें प्रश्न आकृति प्रच्छन्न/अंतर्निहित है।

प्रश्न आकृति



Ans

1.

2.

3.

4.

Question ID : 9895808385
Chosen Option : 2

Q.1

9 पाँच किताबें A, B, C, D और E हैं। किताब C ऊपर है किताब D के, किताब E नीचे है किताब A के, D ऊपर है A के, किताब B नीचे है E के। कौन सी किताब सबसे नीचे है?

- Ans
- 1. A
 - 2. D
 - 3. B
 - 4. C

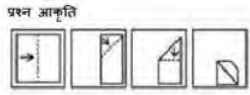
Question ID : 9895808374
Chosen Option : 3

Q.2 0 उस विकल्प का चयन करें जो तीसरे पद से उसी तरह संबंधित है जिस प्रकार दूसरा पद पहले पद से संबंधित है।
AC : CF :: MO : ?

- Ans
- 1. QR
 - 2. PQ
 - 3. OQ
 - 4. OR

Question ID : 9895808369
Chosen Option : 4

Q.2 1 नीचे दिए गए प्रश्न आकृति के अनुसार एक कागज को मोड़कर काटा गया। खोले जाने पर वह, दी गई आकृतियों में से, कैसा दिखाई देगा?



- Ans
- 1.
 - 2.
 - 3.
 - 4.

Question ID : 9895808387
Chosen Option : 4

Q.2 2 उस विकल्प का चयन करें जो तीसरे पद से उसी तरह संबंधित है जिस प्रकार पहला पद दूसरे पद से संबंधित है।
कार : गैराज :: हवाई जहाज : ?

Ans

1. उड़ान

2. हैंगर

3. एयर होस्टेस

4. लैंडिंग

Question ID : 9895808367
Chosen Option : 2

Q.2 यदि '+' का अर्थ 'भाग' है, '-' का अर्थ 'जोड़' है, 'x' का अर्थ 'घटाव' है और '÷' का अर्थ 'गुणा' है, तो

$$20 \times 12 + 4 - 8 \div 4 = ?$$

Ans 1. 38

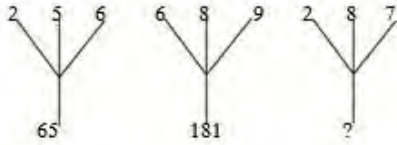
2. 49

3. 41

4. 39

Question ID : 9895808382
Chosen Option : 2

Q.2 दिए गए विकल्पों में से लुप्त संख्या ज्ञात करें।



Ans 1. 78

2. 110

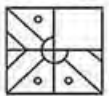
3. 117

4. 108

Question ID : 9895808381
Chosen Option : 3

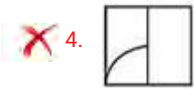
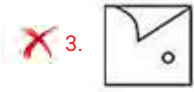
Q.2 निम्नलिखित में से कौन सी उत्तर आकृति दी गई आकृति को पूरा करेगी?

प्रश्न आकृति



Ans





Question ID : 9895808384
Chosen Option : 1

Q.2
6 निम्न में से कौन सी झारखंड की सर्वाधिक लोकप्रिय संगीत शैली है?

- Ans
- 1. मांड
 - 2. खुबाकएशेई
 - 3. धमसा
 - 4. मांडो

Question ID : 9895807428
Chosen Option : 2

Q.2
7 चोल साम्राज्य के संस्थापक का नाम बताइए जिसने तंजौर पर कब्जा किया और जिसके बाद अदित्य I राजा बना।

- Ans
- 1. गंडारादित्य
 - 2. उत्तम
 - 3. राजाधिराज
 - 4. विजयालय

Question ID : 9895807450
Chosen Option : 4

Q.2
8 औरंगाबाद किस नदी के किनारे पर स्थित है?

- Ans
- 1. गोदावरी
 - 2. कौम
 - 3. मूसी
 - 4. महानदी

Question ID : 9895807447
Chosen Option : 1

Q.2
9 निम्न में से कौन सी पूर्व प्रधानमंत्री आई के गुजराल की आत्मकथा है?

- Ans
- 1. द ऑटोबायोग्राफी ऑफ एन अननोन इंडियन
 - 2. ड्रीम्स फ्रॉम माय फादर

3. फिलिंग द गैप

4. मैटर्स ऑफ डिस्क्रीशन

Question ID : 9895807434

Chosen Option : 3

Q.3
0 सीमेंस किसकी इकाई है?

Ans 1. चुंबकीय प्रवाह घनत्व

2. विद्युत चालकत्व

3. चुंबकीय प्रवाह

4. धारिता

Question ID : 9895807443

Chosen Option : 1

Q.3
1 1970 में मिस एशिया पैसिफिक का खिताब जीतने वाली पहली भारतीय प्रतिभागी कौन बनी?

Ans 1. रीता फारिया

2. डायना हेडन

3. ज़ीनत अमान

4. तारा फॉसेका

Question ID : 9895807435

Chosen Option : 1

Q.3
2 भारतीय संविधान में याचिकाएं और दृविसदनीय पद्धति किस देश के संविधान से प्रेरित हैं?

Ans 1. संयुक्त राज्य अमेरिका

2. ऑस्ट्रेलिया

3. आयरलैंड

4. यूनाइटेड किंगडम

Question ID : 9895807439

Chosen Option : 4

Q.3
3 अंडमान निकोबार द्वीप समूह में सबसे ऊंची चोटी का नाम बताइए।

Ans 1. सैडल पीक

2. करोह पीक

3. कोडाचाद्री

4. सौंसोगोर

Question ID : 9895807448
Chosen Option : 1

Q.3
4 कौन सी मिश्रधातु में कांसा, सीसा और टिन होते हैं?

- Ans
- 1. जर्मन सिल्वर
 - 2. बेल मेटल
 - 3. सोल्डर
 - 4. रोज मेटल

Question ID : 9895807445
Chosen Option : 3

Q.3
5 शक्ति 'P', प्रवाह 'I' और प्रतिरोध 'R' के बीच क्या संबंध है?

- Ans
- 1. $P = I^2/R$
 - 2. $P = IR^2$
 - 3. $P = I/R^2$
 - 4. $P = I^2R$

Question ID : 9895807442
Chosen Option : 3

Q.3
6 क्लोरोफॉर्म का सूत्र क्या है?

- Ans
- 1. CCl_4
 - 2. $CHCl_3$
 - 3. CH_3Cl
 - 4. CF_2Cl_2

Question ID : 9895807444
Chosen Option : 4

Q.3
7 1773 के विनियमन अधिनियम के दोषों को दूर करने के लिए ब्रिटिश संसद द्वारा पारित किया गया था कौन सा अधिनियम जो ईस्ट इंडिया कंपनी अधिनियम, 1784 से भी जाना जाता है?

- Ans
- 1. रेगुलेशन एक्ट 1773
 - 2. 1861 का भारतीय परिषद अधिनियम
 - 3. पिट्स इंडिया एक्ट
 - 4. 1858 का भारत सरकार अधिनियम

Question ID : 9895807441

Chosen Option : 1

Q.3 ब्लैक फॉरेस्ट एक बड़ी वनाच्छादित पर्वत श्रृंखला है जो _____ में पाई जाती है।

- Ans
- 1. ब्राज़िल
 - 2. जर्मनी
 - 3. दक्षिण अफ्रीका
 - 4. बेल्जियम

Question ID : 9895807449
Chosen Option : 3

Q.3 अधिक सर्वेक्षण रिपोर्ट 2017-18 में दर्शाया गया है की FY18 के लिए उद्योग वृद्धि दर _____ रहने की संभावना है।

- Ans
- 1. 5.40%
 - 2. 5.90%
 - 3. 4.40%
 - 4. 4.90%

Question ID : 9895807436
Chosen Option : 2

Q.4 2018-19 के लिए बाजरे का न्यूनतम समर्थन मूल्य कितना निर्धारित किया गया है?

- Ans
- 1. ₹5,150 प्रति क्विंटल
 - 2. ₹1,950 प्रति क्विंटल
 - 3. ₹1,750 प्रति क्विंटल
 - 4. ₹2,430 प्रति क्विंटल

Question ID : 9895807438
Chosen Option : 4

Q.4 अमरोहा के युद्ध (1305) में दिल्ली सल्तनत को किसके ऊपर विजय प्राप्त हुई?

- Ans
- 1. ईस्ट इंडिया कंपनी
 - 2. बीजापुर सल्तनत
 - 3. मंगोल सेना
 - 4. पुर्तगाली साम्राज्य

Question ID : 9895807452
Chosen Option : 4

Q.4 टिबिया किसका भाग है?

Ans

- 1. हाथ
- 2. खोपड़ी
- 3. बांह
- 4. पैर

Question ID : 9895807446
Chosen Option : 4

Q.4
3 भारतीय संविधान के किस भाग में चुनावों पर अनुच्छेद हैं?

- Ans
- 1. भाग XV
 - 2. भाग V
 - 3. भाग XX
 - 4. भाग X

Question ID : 9895807440
Chosen Option : 1

Q.4
4 मई 2018 में लुधियाना का _____ अंडर-2300 श्रेणी में FIDE विश्व अमेचर (अव्यवसायिक) चैंपियनशिप जीतने वाला सबसे पहला भारतीय शतरंज खिलाड़ी बना।

- Ans
- 1. कृष्णन शशिकिरन
 - 2. अरविंदर प्रीत
 - 3. भास्करन अधिबान
 - 4. पेंटाला हरिकृष्ण

Question ID : 9895807432
Chosen Option : 3

Q.4
5 भारत रत्न प्राप्त करने वाले किस व्यक्ति का जन्मदिन राष्ट्रीय चिकित्सक दिवस के रूप में मनाया जाता है?

- Ans
- 1. बिधान चंद्र राँय
 - 2. सी एन आर राव
 - 3. पुरुषोत्तम दास टंडन
 - 4. अब्दुल कलाम आजाद

Question ID : 9895807433
Chosen Option : 2

Q.4
6 2018-19 प्रो कबड्डी लीग फाइनल में कौन सी टीम विजेता रही?

- Ans
- 1. बंगलूरु बुल्स
 - 2. दबंग दिल्ली केसी

3. बंगाल वॉरियर्स
 4. जयपुर पिंक पैंथर्स

Question ID : 9895807431
Chosen Option : 1

Q.4 अक्टूबर और नवंबर के बीच तमिलनाडु में मनाए जाते किस अनोखे उत्सव/कार्यक्रम में आग पर चलने की प्रथा है?
7

- Ans 1. मिंजर
 2. पुली काली
 3. थिमिथी
 4. मड़ई

Question ID : 9895807429
Chosen Option : 2

Q.4 निम्न में से कौन सी महाराष्ट्र की नृत्य शैली है?
8

- Ans 1. चिरौ
 2. ओट्टम थुल्लल
 3. लेज़िम
 4. माचा

Question ID : 9895807430
Chosen Option : 4

Q.4 भारत सरकार अधिनियम, 1919, 23 दिसंबर 1919 से लागू हुआ। इस अधिनियम में _____ रिपोर्ट में सिफारिश
9 किए गए सुधारों को शामिल किया गया।

- Ans 1. कर्जन
 2. मॉटेग्यू-चेम्सफोर्ड
 3. राष्ट्रीय योजना
 4. मॉर्ले-मिंटो

Question ID : 9895807451
Chosen Option : 2

Q.5 केंद्रीय बजट 2018 में मत्स्यपालन फंड और पशुपालन फंड स्थापित करने के लिए कुल कितनी राशि आवंटित की गई
0 है?

- Ans 1. ₹10,000 करोड़
 2. ₹500 करोड़
 3. ₹1,000 करोड़

4. ₹5,000 करोड़

Question ID : 9895807437
Chosen Option : 4

Q.5
1 कागज का मूल्य ₹55 प्रति kg है। यदि एक kg कागज से 192 sq.m क्षेत्रफल कवर किया जाता है 8 m भुजा वाले एक घन को कागज से कवर करने पर कितना खर्च होगा?

- Ans
- 1. ₹165
 - 2. ₹110
 - 3. ₹192
 - 4. ₹55

Question ID : 9895807774
Chosen Option : 3

Q.5
2 तीन संख्याएं 3 : 4 : 5 के अनुपात में हैं और उनका लघुत्तम समावर्त्य (L.C.M.) 4200 है। तो उनका महत्तम समावर्तक (H.C.F.) है:

- Ans
- 1. 60
 - 2. 20
 - 3. 70
 - 4. 15

Question ID : 9895807753
Chosen Option : 3

Q.5
3 सात संख्याओं के समुच्चय का माध्य 81 है। यदि किसी एक संख्या को हटाया जाता है, तो शेष संख्याओं का माध्य 78 हो जाता है। तो हटाई गई संख्या का मान क्या है?

- Ans
- 1. 98
 - 2. 100
 - 3. 101
 - 4. 99

Question ID : 9895807759
Chosen Option : 4

Q.5
4

निम्नलिखित रेखीय ग्राफ 1995 से 2001 की अवधि में किसी कंपनी द्वारा आयात की मात्रा से उस कंपनी से निर्यात की मात्रा का अनुपात दर्शाता है।

वर्षों में कंपनी द्वारा आयात मूल्य

से निर्यात मूल्य का अनुपात।



यदि 1995 में कंपनी का आयात ₹247 करोड़ था, तो 1995 में कंपनी द्वारा निर्यात कितना था?

- Ans
- 1. ₹275 करोड़
 - 2. ₹280 करोड़
 - 3. ₹370 करोड़
 - 4. ₹380 करोड़

Question ID : 9895807776

Chosen Option : 3

Q.5 400 m लंबी ट्रेन 300 m लंबे पुल को 70 सेकंड में पार करती है। तो ट्रेन की गति है :

- Ans
- 1. 72 km/h
 - 2. 54 km/h
 - 3. 18 km/h
 - 4. 36 km/h

Question ID : 9895807770

Chosen Option : 4

Q.5 6 सरलीकृत करें:

$$17 - 4.5 \div 9 + 1.3 \times 0.6 + 0.4$$

- Ans
- 1. 17.86
 - 2. 16.78
 - 3. 16.68
 - 4. 17.68

Question ID : 9895807755

Chosen Option : 2

7 निम्नलिखित रेखीय ग्राफ 1995 से 2001 की अवधि में किसी कंपनी द्वारा आयात की मात्रा से उस कंपनी से निर्यात की मात्रा का अनुपात दर्शाता है।

वर्षों में कंपनी द्वारा आयात मूल्य

से निर्यात मूल्य का अनुपात।



किस वर्ष में कंपनी के निर्यात से आयात का अनुपात अधिकतम था?

- Ans
- 1. 2000
 - 2. 1998
 - 3. 1996
 - 4. 2001

Question ID : 9895807775
Chosen Option : 1

Q.5 यह नियत किया गया था कि ₹780 को P, Q और R के बीच 1:2:3 के अनुपात में वितरित किया जाए। लेकिन गलती से वितरण $\frac{1}{2} : \frac{1}{3} : \frac{1}{4}$ के अनुपात में किया गया था। तो इस गलती से 'Q' को कितना नुकसान हुआ?

- Ans
- 1. ₹30
 - 2. ₹40
 - 3. ₹20
 - 4. ₹10

Question ID : 9895807765
Chosen Option : 3

Q.5 रमन ने 9 वर्ष बाद ब्याज के रूप में ₹13,300 का भुगतान किया। उसने पहले दो वर्षों के लिए 6%, अगले तीन वर्षों के लिए 9% और शेष अवधि के लिए 14% की दर से पर कुछ धनराशि उधार ली थी। तो उसने कुल कितनी धनराशि उधार ली थी?

- Ans
- 1. ₹14,000
 - 2. ₹12,000
 - 3. ₹10,000
 - 4. ₹12,500

Question ID : 9895807766
Chosen Option : 3

Q.6 ट्रेन A को 800 km की दूरी तय करने के लिए ट्रेन B से 6 घंटे अधिक समय लगता है। यदि ट्रेन A की गति दोगुनी कर डी जाती है तो यह ट्रेन B से 2 घंटे कम समय लगती है। तो ट्रेन B की गति क्या है?

- Ans 1. 60 km/h
 2. 80 km/h
 3. 50 km/h
 4. 75 km/h

Question ID : 9895807771
Chosen Option : 3

Q.6 8 cm त्रिज्या वाला एक वृत्त जिसका क्षेत्रफल 8 cm आधार वाले त्रिभुज के क्षेत्रफल के बराबर है। तो त्रिभुज की समरूपी ऊंचाई की लंबाई है:

- Ans 1. 16π cm
 2. 38π cm
 3. 18π cm
 4. 8π cm

Question ID : 9895807772
Chosen Option : 1

Q.6 एक पुस्तकालय में, कहानी की पुस्तकों की संख्या से गैर-कहानी पुस्तकों की संख्या का अनुपात 4:5 था और कहानी की पुस्तकों की कुल संख्या 900 थी। जब कहानी की कुछ और किताबें खरीदी गईं, तो अनुपात 8:9 हो गया। खरीदी गई कहानी की किताबों की संख्या ज्ञात करें।

- Ans 1. 140
 2. 100
 3. 120
 4. 130

Question ID : 9895807763
Chosen Option : 3

Q.6 एक विक्रेता ने एक रुपये में 10 टॉफियां खरीदीं। तो 25% का लाभ कमाने के लिए उसे एक रुपये में कितनी टॉफी बेचनी चाहिए?

- Ans 1. 6
 2. 7
 3. 8
 4. 5

Question ID : 9895807761
Chosen Option : 3

Q.6 ₹7,000,000 कीमत के फ्लैट का मूल्य 20% प्रति वर्ष की दर से मूल्यहासित हो रहा है। तो कितने वर्षों में मूल्य घटकर ₹35,84,000 हो जाएगा।

- Ans 1. 2 वर्ष
 2. 3 वर्ष
 3. 5 वर्ष
 4. 4 वर्ष

Question ID : 9895807767

Chosen Option : 1

Q.6 P और Q की औसत मासिक आय ₹8,500 है। Q और R की औसत मासिक आय ₹6,450 है तथा P और R की औसत मासिक आय ₹7,300 है। तो Q की मासिक आय कितनी है?

- Ans
- 1. ₹7,650
 - 2. ₹7,000
 - 3. ₹7,600
 - 4. ₹8,650

Question ID : 9895807757

Chosen Option : 3

Q.6 यदि एक दिन में 6 घंटे काम करने वाले 10 आदमी 90 दिनों में एक काम कर सकते हैं, तो एक दिन में 15 घंटे काम करने वाले 6 आदमी कितने दिनों में उस काम को पूरा कर सकते हैं?

- Ans
- 1. 30 दिन
 - 2. 20 दिन
 - 3. 60 दिन
 - 4. 40 दिन

Question ID : 9895807769

Chosen Option : 3

Q.6 एक परिवार में दो दादा-दादी, चार माता-पिता और छह नाती-पोते हैं। दादा-दादी की औसत आयु 70 वर्ष है, माता-पिता की आयु 40 वर्ष है और पोते की आयु 12 वर्ष है। तो परिवार की औसत आयु क्या है?

- Ans
- 1. 35 वर्ष
 - 2. 32 वर्ष
 - 3. 30 वर्ष
 - 4. 31 वर्ष

Question ID : 9895807756

Chosen Option : 4

Q.6 P, Q, और R प्रकार की प्रत्येक वस्तु का मूल्य क्रमशः ₹200, ₹300 और ₹400 है। सुरेश ₹2,000 में 1:2:3 के अनुपात में प्रत्येक प्रकार की वस्तु खरीदता है। तो उसने Q प्रकार की कितनी वस्तुएं खरीदी?

- Ans
- 1. 4
 - 2. 5
 - 3. 2
 - 4. 3

Question ID : 9895807764

Chosen Option : 3

Q.6

9 सरलीकृत करें:

$$5.7 - 0.4 \text{ of } (7.4 - 2.6) + 5.7 \times 3.01 + 10$$

- Ans
- 1. 30.947
 - 2. 30.937
 - 3. 30.497
 - 4. 30.397

Question ID : 9895807754
Chosen Option : 2

Q.7 यदि 15 श्रमिक 10 दिनों में ₹1,800 कमा सकते हैं। तो 8 दिनों में 5 श्रमिकों की कमाई कितनी होगी।

- Ans
- 1. ₹400
 - 2. ₹480
 - 3. ₹540
 - 4. ₹360

Question ID : 9895807768
Chosen Option : 2

Q.7 हेंडबैग पर 25% की छूट थी। मधु ने एक हेंडबैग खरीदा। उसे नकद भुगतान करने पर 10% की छूट भी मिली। उसने ₹540 का भुगतान किया। तो हेंडबैग पर अंकित मूल्य कितना था?

- Ans
- 1. ₹450
 - 2. ₹500
 - 3. ₹600
 - 4. ₹800

Question ID : 9895807758
Chosen Option : 4

Q.7 18 गेंदों को ₹900 में बेचने पर, 6 गेंदों के लागत मूल्य के बराबर हानि होती है। तो एक गेंद का लागत मूल्य कितना है?

- Ans
- 1. ₹50
 - 2. ₹75
 - 3. ₹70
 - 4. ₹80

Question ID : 9895807762
Chosen Option : 1

Q.7
3

निम्नलिखित रेखीय ग्राफ 1995 से 2001 की अवधि में किसी कंपनी द्वारा आयात की मात्रा से उस कंपनी से निर्यात की मात्रा का अनुपात दर्शाता है।

वर्षों में कंपनी द्वारा आयात मूल्य

से निर्यात मूल्य का अनुपात।



दिए गए वर्षों में से कितने वर्षों में आयात से कम निर्यात हुआ?

- Ans
- 1. 4
 - 2. 2
 - 3. 1
 - 4. 3

Question ID : 9895807777

Chosen Option : 1

Q.7 एक लंब वृत्तीय शंकु का पृष्ठीय क्षेत्रफल $\frac{1408}{7} cm^2$ है और इसकी ऊंचाई 6 cm है। $\pi = \frac{22}{7}$ लेकर, शंकु का वक्र पृष्ठीय क्षेत्रफल कितना होगा?

- Ans
- 1. $\frac{1760}{7} cm^2$
 - 2. $\frac{1067}{7} cm^2$
 - 3. $\frac{1670}{7} cm^2$
 - 4. $\frac{7160}{7} cm^2$

Question ID : 9895807773

Chosen Option : 4

Q.7 एक छात्र ने $\frac{4}{5}$ के बजाय $\frac{5}{4}$ से किसी एक संख्या का गुणा किया, तो गणना में प्रतिशत त्रुटि क्या होगी?

- Ans
- 1. 36%
 - 2. 54%
 - 3. 72%
 - 4. 44%

Question ID : 9895807760

Chosen Option : 1

Q.1 From the given options, identify the segment in the sentence which contains the grammatical error.

Information suitable for communication, interpretation or processing by a computer are called as Data.

- Ans
- 1. suitable for communication
 - 2. Information
 - 3. interpretation or processing
 - 4. are called as Data

Question ID : 9895808088

Chosen Option : --

Q.2 Select the most appropriate option to substitute the underlined segment in the given sentence. If there is no need to substitute it, select No improvement.

More than one traveller were injured in the derailing of the train last night.

- Ans
- 1. was injured
 - 2. No improvement
 - 3. are injured
 - 4. has injured

Question ID : 9895808090

Chosen Option : --

Q.3 Select the most appropriate word to fill in the blank.

The year 2018 remained as the best year of _____ and celebrations for him.

- Ans
- 1. symbols
 - 2. mechanisms
 - 3. milestones
 - 4. provisions

Question ID : 9895808111

Chosen Option : --

Q.4 Select the word which means the same as the group of words given.

Government not connected with religious or spiritual matters.

- Ans
- 1. Theocratic
 - 2. Secular
 - 3. Monarchic
 - 4. Democratic

Question ID : 9895808107

Chosen Option : --

Q.5

Select the most appropriate option to fill in the blank.

Fathers have typically been _____ by how well they support their families financially.

- Ans
- 1. judging
 - 2. judges
 - 3. judged
 - 4. judge

Question ID : 9895808094
Chosen Option : --

Q.6 Select the most appropriate option to substitute the underlined segment in the given sentence. If there is no need to substitute it, select No improvement.

She stayed in Mumbai for two weeks over a project by an NGO working for the welfare of street - children.

- Ans
- 1. in a project
 - 2. for a project
 - 3. No improvement
 - 4. to a project

Question ID : 9895808091
Chosen Option : --

Q.7 Select the synonym of the given word.

PATRON

- Ans
- 1. Beneficiary
 - 2. Sponsor
 - 3. Owner
 - 4. Comrade

Question ID : 9895808101
Chosen Option : --

Q.8 Select the correctly spelt word.

- Ans
- 1. Disappointment
 - 2. Dissappointment
 - 3. Disapointment
 - 4. Disappiointment

Question ID : 9895808110
Chosen Option : --

Q.9

Select the antonym of the given word.

SHALLOW

- Ans
- 1. Deep
 - 2. External
 - 3. Primary
 - 4. Superficial

Question ID : 9895808104
Chosen Option : --

Q.1
0 Select the option that means the same as the given idiom.

To judge a book by its cover.

- Ans
- 1. To rely on outward appearance
 - 2. To buy books after seeing the colourful cover
 - 3. To read the outer cover only
 - 4. To go with popular opinions

Question ID : 9895808105
Chosen Option : --

Q.1
1 Select the most appropriate option to substitute the underlined segment in the given sentence. If there is no need to substitute it, select No improvement.

Some programs make a general purpose computer behave like a virtual terminal.

- Ans
- 1. makes a general purpose computer
 - 2. No improvement
 - 3. makes general purpose computer
 - 4. makes a general purpose computers

Question ID : 9895808092
Chosen Option : --

Q.1
2 Select the antonym of the given word.

COLOSSAL

- Ans
- 1. Vast
 - 2. Considerable
 - 3. Countable
 - 4. Minimal

Question ID : 9895808103
Chosen Option : --

Q.1 From the given options, identify the segment in the sentence which contains the grammatical error.

3

Most major holidays has some connection to the change of seasons everywhere.

- Ans
- 1. Most major holidays
 - 2. to the change of
 - 3. has some connection
 - 4. seasons everywhere

Question ID : 9895808089

Chosen Option : --

Q.1 Select the correctly spelt word.

4

- Ans
- 1. Consitution
 - 2. Constitution
 - 3. Constitutoin
 - 4. Constitution

Question ID : 9895808109

Chosen Option : --

Q.1 Select the word which means the same as the group of words given.

5

A sound that cannot be heard.

- Ans
- 1. invisible
 - 2. unrevealed
 - 3. inaudible
 - 4. impalpable

Question ID : 9895808108

Chosen Option : --

Comprehension:

In the following passage some words have been deleted. Fill in the blanks with the help of the alternatives given.

It is very important to realise that an important factor in getting appreciation is often not (1) _____ by the success in academic examinations but your behaviour (2) _____ others. Simplicity and truthfulness play a very important role in social (3) _____. One should always be compassionate and should make an (4) _____ to understand the problems of companions and try to find solutions. We should always be flexible in our (5) _____.

SubQuestion No : 16

Q.1 Select the most appropriate option that will fill in the blank number 1.

6

- Ans
- 1. talked

- 2. driven
- 3. intended
- 4. spoken

Question ID : 9895808096
Chosen Option : --

Comprehension:

In the following passage some words have been deleted. Fill in the blanks with the help of the alternatives given.

It is very important to realise that an important factor in getting appreciation is often not (1) _____ by the success in academic examinations but your behaviour (2) _____ others. Simplicity and truthfulness play a very important role in social (3) _____. One should always be compassionate and should make an (4) _____ to understand the problems of companions and try to find solutions. We should always be flexible in our (5) _____.

SubQuestion No : 17

Q.1
7 Select the most appropriate option that will fill in the blank number 2.

- Ans
- 1. on
 - 2. about
 - 3. for
 - 4. towards

Question ID : 9895808097
Chosen Option : --

Comprehension:

In the following passage some words have been deleted. Fill in the blanks with the help of the alternatives given.

It is very important to realise that an important factor in getting appreciation is often not (1) _____ by the success in academic examinations but your behaviour (2) _____ others. Simplicity and truthfulness play a very important role in social (3) _____. One should always be compassionate and should make an (4) _____ to understand the problems of companions and try to find solutions. We should always be flexible in our (5) _____.

SubQuestion No : 18

Q.1
8 Select the most appropriate option that will fill in the blank number 3.

- Ans
- 1. rejection
 - 2. approval
 - 3. denial

✓ 4. perception

Question ID : 9895808098
Chosen Option : --

Comprehension:

In the following passage some words have been deleted. Fill in the blanks with the help of the alternatives given.

It is very important to realise that an important factor in getting appreciation is often not (1) _____ by the success in academic examinations but your behaviour (2) _____ others. Simplicity and truthfulness play a very important role in social (3) _____. One should always be compassionate and should make an (4) _____ to understand the problems of companions and try to find solutions. We should always be flexible in our (5) _____.

SubQuestion No : 19

Q.1
9 Select the most appropriate option that will fill in the blank number 4.

- Ans
- 1. association
 - 2. experiment
 - 3. attempt
 - 4. enquiry

Question ID : 9895808099
Chosen Option : --

Comprehension:

In the following passage some words have been deleted. Fill in the blanks with the help of the alternatives given.

It is very important to realise that an important factor in getting appreciation is often not (1) _____ by the success in academic examinations but your behaviour (2) _____ others. Simplicity and truthfulness play a very important role in social (3) _____. One should always be compassionate and should make an (4) _____ to understand the problems of companions and try to find solutions. We should always be flexible in our (5) _____.

SubQuestion No : 20

Q.2
0 Select the most appropriate option that will fill in the blank number 5.

- Ans
- 1. ambition
 - 2. attitude
 - 3. role
 - 4. goal

Question ID : 9895808100

Chosen Option : --

Q.2
1 Select the most appropriate option to fill in the blank.

A Vision is a _____ oriented statement of where you want to be.

- Ans
- 1. current
 - 2. future
 - 3. trade
 - 4. present

Question ID : 9895808093
Chosen Option : --

Q.2
2 Select the most appropriate word to fill in the blank.

Social media algorithms can be _____ used in teaching - learning process.

- Ans
- 1. momentarily
 - 2. briefly
 - 3. barely
 - 4. easily

Question ID : 9895808112
Chosen Option : --

Q.2
3 From the given options, identify the segment in the sentence which contains the grammatical error.

Ajay says he understood French but cannot speak it as fluently as his parents and grandparents do.

- Ans
- 1. but cannot speak
 - 2. he understood French
 - 3. parents and grandparents do
 - 4. as fluently as

Question ID : 9895808087
Chosen Option : --

Q.2
4 Select the option that means the same as the given idiom.

To take a stock of.

- Ans
- 1. To save a large quantity of stock
 - 2. To go to a stock - room and survey it
 - 3. To collect goods after an inventory
 - 4. To assess and evaluate before taking a decision

Question ID : 9895808106
Chosen Option : --

Q.2 Select the synonym of the given word.

EXHAUSTIVE

- Ans
- 1. Complete
 - 2. Temporary
 - 3. Permanent
 - 4. Transitory

Question ID : 9895808102
Chosen Option : --

Section : Hindi Language

Q.1 दिए गए शब्द का विलोम चुनें।

प्रहार

- Ans
- 1. हमला
 - 2. विहार
 - 3. प्रतिरक्षा
 - 4. रक्षा

Question ID : 9895806881
Chosen Option : 1

Q.2 दिए गए वाक्य में रेखांकित खंड को प्रतिस्थापित करने के लिए उपयुक्त विकल्प का चयन करें।

राम शक्ति के उपासक थे।

- Ans
- 1. वैष्णव
 - 2. सदाचारी
 - 3. शाक्त
 - 4. शैव

Question ID : 9895806868
Chosen Option : 1

Q.3 रिक्त स्थान को भरने के लिए उपयुक्त शब्द का चयन करें।

_____ कितना सुंदर दृश्य है।

- Ans
- 1. सावधान!
 - 2. नहीं!
 - 3. वाह!
 - 4. छिः!

Question ID : 9895806873
Chosen Option : 3

Q.4 रिक्त स्थान को भरने के लिए उपयुक्त शब्द का चयन करें।

भूखे को खाने के लिए _____ दो।

- Ans
- 1. पानी
 - 2. भोजन
 - 3. कपड़ा
 - 4. सोना

Question ID : 9895806874
Chosen Option : 2

Q.5 दिये गये वाक्यांश के लिए एक शब्द दीजिये।

जिसमें सहनशक्ति हो

- Ans
- 1. सहनकारी
 - 2. सहिष्णु
 - 3. सहनशीलता
 - 4. सहनीय

Question ID : 9895806887
Chosen Option : 3

Q.6 दिए गए वाक्य का वह भाग ज्ञात करें जिसमें कोई त्रुटि है।

कुबेर बड़ी ही मतलबी इन्सान है, उसका दिमाग सातवें आसमान पर रहता है।

- Ans
- 1. उसका दिमाग
 - 2. कुबेर बड़ी ही
 - 3. सातवें आसमान पर रहता है।
 - 4. मतलबी इन्सान है,

Question ID : 9895806867
Chosen Option : 2

Q.7 सही वर्तनी वाले शब्द का चयन करें।

- Ans
- 1. विशेषन
 - 2. वीशेषण

✓ 3. विशेषण

✗ 4. विशेषण

Question ID : 9895806889
Chosen Option : 3

Q.8 दिए गए वाक्य में रेखांकित खंड को प्रतिस्थापित करने के लिए उपयुक्त विकल्प का चयन करें।

अच्छे कर्म नष्ट नहीं होते हैं-

Ans ✗ 1. अजर

✗ 2. नश्वर

✓ 3. अनश्वर

✗ 4. परस्पर

Question ID : 9895806870
Chosen Option : 1

Q.9 निम्नलिखित में से उस विकल्प का चयन करें जो 'भैंस के आगे बीन बजाना' मुहावरे का अर्थ व्यक्त करता है।

Ans ✓ 1. मूर्ख के सामने ज्ञान की बातें करना

✗ 2. भैंस को बीन पर नचाना

✗ 3. समझदार के सामने मूर्खता की बातें करना

✗ 4. भैंस के सामने संगीत गाना

Question ID : 9895806886
Chosen Option : 1

Q.10 रिक्त स्थान को भरने के लिए उपयुक्त शब्द का चयन करें।

मोहन _____ अर्पिता हँस रहे हैं।

Ans ✗ 1. मगर

✓ 2. और

✗ 3. से

✗ 4. मानो

Question ID : 9895806872
Chosen Option : 2

Q.11 दिए गए शब्द के पर्यायवाची शब्द का चयन करें।

इंद्र

Ans ✗ 1. निशाचर

✗ 2. सुधाकर

3. भागीरथी

4. सुरपति

Question ID : 9895806884
Chosen Option : 2

Q.1
2 दिए गए शब्द के पर्यायवाची शब्द का चयन करें।

सतर्कता

Ans 1. असावधानी

2. सावधानी

3. असतर्कता

4. तसल्ली

Question ID : 9895806883
Chosen Option : 2

Q.1
3 दिए गए वाक्य का वह भाग ज्ञात करें जिसमें कोई त्रुटि है।

शीर्षक का चयन करते समय अनुच्छेदों का निहित भागों और विचारों की परख कर लेनी चाहिए।

Ans 1. शीर्षक का चयन करते समय

2. और विचारों की

3. परख कर लेनी चाहिए।

4. अनुच्छेदों का निहित भागों

Question ID : 9895806865
Chosen Option : 4

Q.1
4 सही वर्तनी वाले शब्द का चयन करें।

Ans 1. अधय्यन

2. अधय्यन

3. आध्ययन

4. अध्ययन

Question ID : 9895806890
Chosen Option : 4

Q.1
5 दिए गए वाक्य में रेखांकित खंड को प्रतिस्थापित करने के लिए उपयुक्त विकल्प का चयन करें।

सूरदास जी जन्म से अंधे थे।

Ans 1. कर्मान्ध

2. धर्मान्ध

3. मदान्ध

✓ 4. जन्मांध

Question ID : 9895806869
Chosen Option : 4

Q.1
6 दिए गए शब्द का विलोम चुनें।

सदाचार

- Ans
- ✓ 1. दुराचार
 - ✗ 2. सुविचार
 - ✗ 3. विचार
 - ✗ 4. कुविचार

Question ID : 9895806882
Chosen Option : 1

Q.1
7 दिये गये वाक्यांश के लिए एक शब्द दीजिये।

जिसकी बुद्धि कम हो

- Ans
- ✗ 1. दुष्टबुद्धि
 - ✗ 2. मृदुबुद्धि
 - ✗ 3. सुबुद्धि
 - ✓ 4. मंदबुद्धि

Question ID : 9895806888
Chosen Option : 4

Q.1
8 रिक्त स्थान को भरने के लिए उपयुक्त शब्द का चयन करें।

गाय पेड़ _____ बँधी है।

- Ans
- ✗ 1. के
 - ✓ 2. से
 - ✗ 3. पर
 - ✗ 4. में

Question ID : 9895806871
Chosen Option : 2

Q.1
9

दिए गए वाक्य का वह भाग ज्ञात करें जिसमें कोई त्रुटि है।

किसी ने ठीक ही कहा है कि जो सोता है वह खोती है।

Ans

1. वह खोती है।
 2. ठीक ही कहा है कि
 3. जो सोता है
 4. किसी ने

Question ID : 9895806866

Chosen Option : 1

Comprehension:

निम्नलिखित गद्यांश के रिक्त स्थानों की पूर्ति गद्यांश के नीचे दिए गए प्रश्नों के अनुसार कीजिए-

दीपावली भारत में _____ (1) जाने वाला सबसे बड़ा त्योहार है। हर साल इस पर्व को कार्तिक _____ (2) में बड़ी धूम-धाम से मनाया जाता है। इस त्योहार के आने के _____ (3) दिन पहले ही इसकी तैयारी आरंभ हो जाती है लोग अपने घरों में साफ़-सफाई और रंग-रोगन का काम _____ (4) कर देते हैं। इस दिन घरों और बाजारों को _____ (5) सजाया जाता है।

SubQuestion No : 20

Q.2
0 गद्यांश में संकेतित रिक्त स्थान (1) के लिए उपयुक्त शब्द होगा।

Ans

1. मनायी
 2. रचाया
 3. मनाया
 4. बनाया

Question ID : 9895806876

Chosen Option : 3

Comprehension:

निम्नलिखित गद्यांश के रिक्त स्थानों की पूर्ति गद्यांश के नीचे दिए गए प्रश्नों के अनुसार कीजिए-

दीपावली भारत में _____ (1) जाने वाला सबसे बड़ा त्योहार है। हर साल इस पर्व को कार्तिक _____ (2) में बड़ी धूम-धाम से मनाया जाता है। इस त्योहार के आने के _____ (3) दिन पहले ही इसकी तैयारी आरंभ हो जाती है लोग अपने घरों में साफ़-सफाई और रंग-रोगन का काम _____ (4) कर देते हैं। इस दिन घरों और बाजारों को _____ (5) सजाया जाता है।

SubQuestion No : 21

Q.2
1 गद्यांश में संकेतित रिक्त स्थान (2) के लिए उपयुक्त शब्द होगा।

- Ans
- 1. दिन
 - 2. सप्ताह
 - 3. माह
 - 4. वर्ष

Question ID : 9895806877
Chosen Option : 3

Comprehension:

निम्नलिखित गद्यांश के रिक्त स्थानों की पूर्ति गद्यांश के नीचे दिए गए प्रश्नों के अनुसार कीजिए-

दीपावली भारत में _____ (1) जाने वाला सबसे बड़ा त्योहार है। हर साल इस पर्व को कार्तिक _____ (2) में बड़ी धूम-धाम से मनाया जाता है। इस त्योहार के आने के _____ (3) दिन पहले ही इसकी तैयारी आरंभ हो जाती है लोग अपने घरों में साफ़-सफाई और रंग-रोगन का काम _____ (4) कर देते हैं। इस दिन घरों और बाजारों को _____ (5) सजाया जाता है।

SubQuestion No : 22

Q.2
2 गद्यांश में संकेतित रिक्त स्थान (3) के लिए उपयुक्त शब्द होगा।

- Ans
- 1. हर
 - 2. एक
 - 3. सब
 - 4. कुछ

Question ID : 9895806878
Chosen Option : 4

Comprehension:

निम्नलिखित गद्यांश के रिक्त स्थानों की पूर्ति गद्यांश के नीचे दिए गए प्रश्नों के अनुसार कीजिए-

दीपावली भारत में _____ (1) जाने वाला सबसे बड़ा त्योहार है। हर साल इस पर्व को कार्तिक _____ (2) में बड़ी धूम-धाम से मनाया जाता है। इस त्योहार के आने के _____ (3) दिन पहले ही इसकी तैयारी आरंभ हो जाती है लोग अपने घरों में साफ़-सफाई और रंग-रोगन का काम _____ (4) कर देते हैं। इस दिन घरों और बाजारों को _____ (5) सजाया जाता है।

SubQuestion No : 23

Q.2
3 गद्यांश में संकेतित रिक्त स्थान (4) के लिए उपयुक्त शब्द होगा।

- Ans
- 1. समाप्त
 - 2. अच्छा
 - 3. आरंभ
 - 4. खराब

Question ID : 9895806879
Chosen Option : 3

Comprehension:

निम्नलिखित गद्यांश के रिक्त स्थानों की पूर्ति गद्यांश के नीचे दिए गए प्रश्नों के अनुसार कीजिए-

दीपावली भारत में _____ (1) जाने वाला सबसे बड़ा त्योहार है। हर साल इस पर्व को कार्तिक _____ (2) में बड़ी धूम-धाम से मनाया जाता है। इस त्योहार के आने के _____ (3) दिन पहले ही इसकी तैयारी आरंभ हो जाती है लोग अपने घरों में साफ़-सफाई और रंग-रोगन का काम _____ (4) कर देते हैं। इस दिन घरों और बाजारों को _____ (5) सजाया जाता है।

SubQuestion No : 24

Q.2
4 गद्यांश में संकेतित रिक्त स्थान (5) के लिए उपयुक्त शब्द होगा।

- Ans
- 1. गन्दा
 - 2. खूब
 - 3. खराब
 - 4. कम

Question ID : 9895806880
Chosen Option : 2

Q.2 निम्नलिखित में से उस विकल्प का चयन करें जो 'मक्खन लगाना' मुहावरे का अर्थ व्यक्त करता है।

- Ans
- 1. मक्खन लगाकर खाना
 - 2. बेकार बैठना
 - 3. चापलूसी करना
 - 4. कंजूसी करना

Question ID : 9895806885
Chosen Option : 3

KD Job Updates

Constable (GD) in CAPFs, NIA, SSF and Rifleman (GD) in Assam Rifles Examination, 2018

Roll No. :	
Registration No.	
Name :	
Exam Venue :	
Exam Time :	12:30 PM - 2:00 PM
Exam Date :	06/03/2019

Section : General Section

Q.1 M, N, O और P आमने सामने बैठ कर ताश खेल रहे हैं। M, N के दाईं ओर है और P, O के बाईं ओर है। तो निम्नलिखित में से कौन जोड़ीदार हैं?

Ans

- 1. M और N
- 2. M और P
- 3. P और O
- 4. N और P

Question ID : 9895808625
Chosen Option : 4

Q.2 निम्नलिखित में से कौन सी उत्तर आकृति दी गई आकृति को पूरा करेगी?

प्रश्न आकृति:



Ans

- 1.
- 2.
- 3.
- 4.

Question ID : 9895808635
Chosen Option : 4

Q.3

नीचे दिए गए कथनों के बाद दो निष्कर्ष I और II दिए गए हैं। यह मानते हुए कि कथनों में दी गई जानकारी सत्य है, भले ही वह सर्वज्ञात तथ्यों से भिन्न प्रतीत होती हो और यह निर्णय करें कि कौन सा / से निष्कर्ष तार्किक और निश्चित रूप से कथन में दी गई जानकारी का अनुसरण करता है / करते हैं।

कथन:

सभी बलवान, जानवर हैं।

कुछ जानवर, बाघ हैं।

सभी बाघ, तेज हैं।

निष्कर्ष:

I. कुछ बलवान, तेज हैं।

II. कोई बलवान, तेज नहीं हैं।

Ans

1. न निष्कर्ष I न II अनुसरण करता है
2. या निष्कर्ष I या II अनुसरण करते हैं
3. केवल निष्कर्ष I अनुसरण करता है
4. केवल निष्कर्ष II अनुसरण करता है

Question ID : 9895808627
Chosen Option : 2

Q.4 दिए गए विकल्पों में से लुप्त संख्या ज्ञात करें।

72	18
54	

64	?
38	

Ans

1. 26
2. 22
3. 24
4. 18

Question ID : 9895808632
Chosen Option : 1

Q.5 चार विकल्प दिए गए हैं, जिनमें से तीन किसी तरह से समान हैं, जबकि एक अलग है। असंगत विकल्प का चयन करें।

Ans

1. 51-24
2. 32-41
3. 36-59
4. 61-34

Question ID : 9895808631
Chosen Option : 3

Q.6 एक निश्चित कूट में, SACK को RZBJ के रूप में लिखा जाता है। उस कूट में AMOUNT कैसे कूटबद्ध किया जाता है?

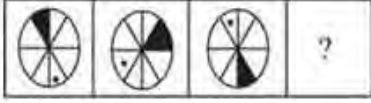
Ans

1. ZLNTMS
2. ZLNMTS
3. ZLNSMT
4. ZLTNMS

Question ID : 9895808621
Chosen Option : 1

Q.7 वह विकल्प चुनें जो दी गई आकृति श्रृंखला को पूरा करता है।

प्रश्न आकृति:



Ans

- 1.
- 2.
- 3.
- 4.

Question ID : 9895808634
Chosen Option : 2

Q.8 उस विकल्प का चयन करें जो दर्पण के दायीं ओर रखे जाने पर दी गई आकृति की दर्पण छवि से सर्वाधिक मेल खाता है।

प्रश्न आकृति:



Ans

- 1.
- 2.
- 3.
- 4.

Question ID : 9895808637
Chosen Option : 4

Q.9 उस विकल्प का चयन करें जो तीसरे पद से उसी तरह संबंधित है जिस प्रकार दूसरा पद पहले पद से संबंधित है।

13 : 196 :: 9 : ?

Ans

1. 131
2. 121
3. 111
4. 100

Question ID : 9895808630

Chosen Option : 4

Q.1 नीचे दिए गए कथनों के बाद निष्कर्ष I, II और III दिए गए हैं। यह मानते हुए कि कथनों में दी गई जानकारी सत्य है, भले ही वह सर्वज्ञात तथ्यों से भिन्न प्रतीत होती हो और यह निर्णय करें कि कौन सा / से निष्कर्ष तार्किक और निश्चित रूप से कथन में दी गई जानकारी का अनुसरण करता है / करते हैं।

कथन:

सभी बीस तीस हैं।

सभी तीस, चालीस हैं।

सभी चालीस साठ हैं।

सभी साठ, सत्तर हैं।

निष्कर्ष:

I. कुछ चालीस, तीस हैं।

II. कुछ सत्तर, साठ हैं।

III. कोई भी तीस, बीस नहीं है।

Ans

1. केवल I और III अनुसरण करते हैं

2. I, II और III सभी अनुसरण करते हैं

3. केवल II और III अनुसरण करते हैं

4. केवल I और II अनुसरण करते हैं

Question ID : 9895808626

Chosen Option : 1

Q.1 आठ व्यक्ति A, B, C, D, E, F, G और H एक वृत्ताकार मेज के चारों ओर बैठे हैं। A और B केंद्र की ओर मुख किये हुए हैं जबकि अन्य छः व्यक्ति केंद्र के विपरीत मुख किये हुए हैं। A, H के दाएं से दूसरे स्थान पर बैठा है। B, A के बाएं से तीसरे स्थान पर बैठा है। D, G के दाएं से दूसरे स्थान पर बैठा है। G न B न ही A का तुरंत पड़ोसी है। E और F तुरंत पड़ोसी हैं और केंद्र के विपरीत मुख किये हुए हैं।

G के बाएं से दूसरे स्थान पर कौन बैठा है?

Ans

1. B

2. F

3. D

4. C

Question ID : 9895808623

Chosen Option : 3

Q.1 उस विकल्प का चयन करें जो तीसरे पद से उसी तरह संबंधित है जिस प्रकार दूसरा पद पहले पद से संबंधित है।

MATE : NATE :: FATE : ?

Ans

1. LATE

2. JATE

3. UATE

4. CATE

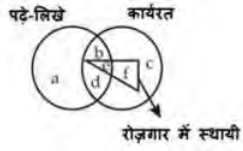
Question ID : 9895808620

Chosen Option : 3

Q.1

3

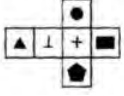
दी गई आकृति को पढ़ें और उस क्षेत्र को ज्ञात करें जो उन व्यक्तियों को दर्शाता हो जो पढ़े-लिखे और कार्यरत हैं, लेकिन रोज़गार में स्थायी नहीं है।



- Ans
1. adc
2. abc
3. ac
4. bd

Question ID : 9895808639
Chosen Option : 4

Q.1 4 बॉक्स बनाने के लिए निम्नलिखित आकृति को मोड़ा जाता है। ▲ के विपरीत फलक कौन सा चिन्ह दिखाई देगा?



- Ans
1. ●
2. ⊥
3. ■
4. +

Question ID : 9895808638
Chosen Option : 4

Q.1 5 उस विकल्प का चयन करें जो सही रूप में रिक्त स्थान की पूर्ति करते हुए श्रृंखला को पूरा करें।
52, 56, 65, 81, 106, _____

- Ans
1. 132
2. 142
3. 122
4. 140

Question ID : 9895808629
Chosen Option : 2

Q.1 6 उस विकल्प का चयन करें जो तीसरे पद से उसी तरह संबंधित है जिस प्रकार दूसरा पद पहले पद से संबंधित है।

दिन : रात :: सुबह : _____

- Ans
1. वायु
2. शाम
3. तारा
4. ग्रह

Question ID : 9895808619
Chosen Option : 2

Q.1
7

उस विकल्प का चयन करें जो सही रूप में रिक्त स्थान की पूर्ति करते हुए श्रृंखला को पूरा करें।

T, R, P, N, L, _____, _____

Ans

1. J, H
2. J, G
3. K, H
4. K, I

Question ID : 9895808615
Chosen Option : 1

Q.1 8 उस विकल्प का चयन करें जो तीसरे पद से उसी तरह संबंधित है जिस प्रकार दूसरा पद पहले पद से संबंधित है।

भारत : देश :: दिल्ली : _____

Ans

1. जिला
2. लाल किला
3. राजधानी
4. महाद्वीप

Question ID : 9895808618
Chosen Option : 3

Q.1 9 यदि B को 2 के रूप में कूटबद्ध करते हैं, F को 8 के रूप में कूटबद्ध करते हैं, C को 4 के रूप में कूटबद्ध करते हैं, G को 3 के रूप में कूटबद्ध करते हैं, H को 0 के रूप में कूटबद्ध करते हैं, A को 1 के रूप में कूटबद्ध करते हैं और N को 7 के रूप में कूटबद्ध करते हैं, तो HNCGB को किस रूप में कूटबद्ध किया जाता है?

Ans

1. 04237
2. 07423
3. 07243
4. 07432

Question ID : 9895808622
Chosen Option : 4

Q.2 0 चार शब्द दिए गए हैं, जिनमें से तीन किसी तरह से समान हैं, जबकि एक अलग है। असंगत शब्द का चयन करें।

Ans

1. टोकरी
2. कटोरा
3. ठेला
4. बैग

Question ID : 9895808617
Chosen Option : 3

Q.2 1 दिए गए समीकरण को संतुलित करने के लिए '*' चिन्हों का स्थान लेने के लिए गणितीय चिन्हों के सही संयोजन का चयन करें।

$32 * 8 * 14 * 7 * 16$

Ans

1. $\div \times - =$
2. $\times - + =$

3. + = ÷ ×
4. - × ÷ =

Question ID : 9895808633

Chosen Option : 4

Q.2 छः बच्चे उत्तर की ओर मुख किये दो पंक्तियों में बैठे हैं। उनके नाम हैं

फुजी, युकेन, यम और क्रिश, चाली, मैक। फुजी और मैक, तिरछे विपरीत बैठे हैं।

युकेन, ऊपर वाली पंक्ति में बैठा है और फुजी के तुरंत दाएं है। क्रिश, मैक के बाए

से दूसरे स्थान पर है जबकि यम और क्रिश, समान पंक्ति में नहीं हैं।

चाली के विपरीत कौन बैठा है?

Ans

1. क्रिश
2. यम
3. फुजी
4. युकेन

Question ID : 9895808624

Chosen Option : 4

Q.2 चार अक्षर समूह दिए गए हैं, जिनमें से तीन किसी तरह से समान हैं, जबकि एक अलग है। असंगत अक्षर समूह का चयन करें।

Ans

1. MPQS
2. GHJK
3. FIJL
4. RUVX

Question ID : 9895808616




Chosen Option : 2

Q.2 उस विकल्प आकृति का चयन करें, जिसमें प्रश्न आकृति छिपी हुई/ अंतर्निहित है।

प्रश्न आकृति:



Ans

1. 
2. 
3. 



Question ID : 9895808636
Chosen Option : 2

Q.2 5 उस विकल्प का चयन करें जो सही रूप में रिक्त स्थान की पूर्ति करते हुए श्रृंखला को पूरा करें।
18, 36, 108, 432, 2160, _____

- Ans
- 1. 12960
 - 2. 12690
 - 3. 14200
 - 4. 15200

Question ID : 9895808628
Chosen Option : 1

Q.2 6 ग्रामीण बैंक के संस्थापक कौन हैं?

- Ans
- 1. अनु मुहम्मद
 - 2. अतीउर रहमान
 - 3. अब्दुल्ला अबू सईद
 - 4. मुहम्मद यूनस

Question ID : 9895808473
Chosen Option : 3

Q.2 7 भारत के किन सामानों ने मशीनीकृत उद्योगों के युग से पहले अंतर्राष्ट्रीय कपड़ा बाज़ार में अपना बर्चस्व स्थापित किया?

- Ans
- 1. सूती माल
 - 2. ऊनी माल
 - 3. रेशमी और सूती माल
 - 4. रेशम का सामान

Question ID : 9895808487
Chosen Option : 1

Q.2 8 राष्ट्रीय एकीकरण की दिशा में योगदान के लिए कौन-सा पुरस्कार दिया जाता है?

- Ans
- 1. गीता चोपड़ा पुरस्कार
 - 2. सरदार पटेल पुरस्कार
 - 3. राजीव गांधी पुरस्कार
 - 4. तिलक पुरस्कार

Question ID : 9895808470
Chosen Option : 2

Q.2

9 सौर सेल का निर्माण करने के लिए किस तत्व का उपयोग किया जाता है?

- Ans
- 1. सिलिकॉन
 - 2. सोडियम
 - 3. सिल्वर
 - 4. सल्फर

Question ID : 9895808483
Chosen Option : 2

Q.3 वह व्यवस्था, जिसमें स्थानीय किसानों को एक खेत में अस्थाई रूप से खेती करने की अनुमति दी गई थी, वह क्या कहलाती है?

- Ans
- 1. स्थानांतरण कृषि
 - 2. भूमि प्रधान खेती
 - 3. टोंग्या कृषि
 - 4. श्रम प्रधान खेती

Question ID : 9895808489
Chosen Option : 1

Q.3 सूरज की रोशनी के स्पेक्ट्रम को प्राप्त करने के लिए ग्लास प्रिज्म का उपयोग करने वाला पहला व्यक्ति कौन था?

- Ans
- 1. जेम्स क्लर्क मैक्सवेल
 - 2. आइजैक न्यूटन
 - 3. हैन्स क्रिश्चियन ओर्स्टेड
 - 4. अल्बर्ट आइंस्टीन

Question ID : 9895808481
Chosen Option : 4

Q.3 माउंट विंसन पर चढ़ने वाली दुनिया की पहली दिव्यांग महिला कौन थी?

- Ans
- 1. बचंदरी पाल
 - 2. प्रेमलता अग्रवाल
 - 3. अरुणिमा सिन्हा
 - 4. संतोष यादव

Question ID : 9895808469
Chosen Option : 4

Q.3 जब प्राकृतिक संसाधनों का दोहन करके माल का उत्पादन किया जाता है, तो यह किस क्षेत्र की गतिविधि से संबद्ध होता है?

- Ans
- 1. सेवा क्षेत्र
 - 2. द्वितीयक क्षेत्र
 - 3. तृतीयक क्षेत्र
 - 4. प्राथमिक क्षेत्र

Question ID : 9895808474
Chosen Option : 2

Q.3
4 हीराकुंड बांध किस नदी पर स्थित है?

- Ans
- 1. भागीरथी
 - 2. सतलज
 - 3. कावेरी
 - 4. महानदी

Question ID : 9895808486
Chosen Option : 4

Q.3
5 दांतों की सड़न शुरू हो जाती है, जब हमारे मुंह का pH होता है:

- Ans
- 1. 5.5 से कम
 - 2. 6.5 से अधिक
 - 3. 7.5 से अधिक
 - 4. 5.5 से अधिक

Question ID : 9895808479
Chosen Option : 1

Q.3
6 वह पत्रिका जिसमें महात्मा गांधी ने उल्लेख किया था कि वे चाहते थे कि संविधान ऐसा करे:

- Ans
- 1. यंग इंडिया
 - 2. हरिजन
 - 3. नवजीवन
 - 4. ओरिएंटल पत्रिका

Question ID : 9895808477
Chosen Option : 4

Q.3
7 कौन-सी गैस सूर्य की पराबैंगनी विकिरणों से पृथ्वी की सतह की रक्षा करती है?

- Ans
- 1. नाइट्रोजन
 - 2. ओज़ोन
 - 3. कार्बन डाइऑक्साइड
 - 4. ऑक्सीजन

Question ID : 9895808482
Chosen Option : 2

Q.3
8 एक भिन्न भाषा या संस्कृति वाले नागरिकों के किसी भी वर्ग को _____ का अधिकार है।

- Ans
- 1. विनाश करने
 - 2. सुरक्षित रखने

3. अपव्यय करने

4. उखाड़ने

Question ID : 9895808478
Chosen Option : 2

Q.3 निम्नलिखित में कौन-सा विकल्प तमिलनाडु से जुड़ी मार्शल आर्ट का एक रूप है?

Ans 1. सिलंबन

2. थांग-ता

3. कलरी पायट्टु

4. थोडा

Question ID : 9895808468
Chosen Option : 3

Q.4 कपास पैदा करने के लिए आदर्श मिट्टी है:

Ans 1. काली मिट्टी

2. लेटराइट मिट्टी

3. जलोढ़ मिट्टी

4. शुष्क मिट्टी

Question ID : 9895808484
Chosen Option : 1

Q.4 भारत के दक्षिणी भाग में रबी फसल और उत्तरी भाग में खरीफ फसल के रूप में किसकी खेती की जाती है?

Ans 1. अलसी

2. मूंगफली

3. सरसों

4. तिल

Question ID : 9895808485
Chosen Option : 3

Q.4 गैल्वनीकरण की प्रक्रिया में लोहे पर क्या जमा किया जाता है?

Ans 1. जस्ता

2. तांबा

3. टिन

4. अल्युमीनियम

Question ID : 9895808480
Chosen Option : 1

Q.4 कौन-सा संगठन सांख्यिकी, आयोजना और कार्यक्रम कार्यान्वयन मंत्रालय के अधीन है?

- Ans
- 1. राष्ट्रीय सर्वेक्षण संगठन
 - 2. केंद्रीय प्रतिदर्श सर्वेक्षण संगठन
 - 3. केंद्रीय सर्वेक्षण संगठन
 - 4. राष्ट्रीय प्रतिदर्श सर्वेक्षण संगठन

Question ID : 9895808475
Chosen Option : 4

Q.4
4 द इंपीरियल फॉरेस्ट रिसर्च इंस्टीट्यूट की स्थापना 1906 में _____ की गई थी।

- Ans
- 1. देहरादून में
 - 2. अल्मोड़ा में
 - 3. बेंगलोर में
 - 4. भोपाल में

Question ID : 9895808488
Chosen Option : 1

Q.4
5 विश्वामित्र का टीला किस राज्य में स्थित है?

- Ans
- 1. राजस्थान
 - 2. हरियाणा
 - 3. उत्तरांचल
 - 4. पंजाब

Question ID : 9895808466
Chosen Option : 3

Q.4
6 फ़िल्म 'भुवन सोम' किसने निर्देशित की थी?

- Ans
- 1. ऋत्विक् घटक
 - 2. बुद्धदेब दासगुप्ता
 - 3. मृणाल सेन
 - 4. सत्यजित रे

Question ID : 9895808472
Chosen Option : --

Q.4
7 "In my mother's house" पुस्तक किसके द्वारा लिखी गई है?

- Ans
- 1. शारिका थिरनागामा
 - 2. राजीव विजेसिन्हा
 - 3. निहाल डी' सिल्वा
 - 4. श्याम सेलवदुरई

Question ID : 9895808471

Chosen Option : --

Q.4 2018 में किसे ऑर्डर ऑफ ब्रिटिश एम्पायर के कमांडर के पद से सम्मानित किया गया है?

- Ans
- 1. तजिन्दर सिंह
 - 2. तलवीन सिंह
 - 3. नितिन साहनी
 - 4. राजिन्दर राय

Question ID : 9895808467
Chosen Option : 1

Q.4 _____ एक औपचारिक दस्तावेज होता है जिसमें केवल भारत के उच्च न्यायालय या सर्वोच्च न्यायालय द्वारा सरकार को जारी किए गए न्यायालय के आदेश निहित होता है।

- Ans
- 1. समन
 - 2. प्रसंविदा
 - 3. रिट/परमादेश
 - 4. दावा

Question ID : 9895808476
Chosen Option : 2

Q.5 किस कार्यक्रम को यूनेस्को द्वारा मानवता की अमूर्त सांस्कृतिक विरासत के रूप में चिह्नित किया गया है?

- Ans
- 1. सूरज कुंड मेला
 - 2. तारनेतर मेला
 - 3. पुष्कर मेला
 - 4. कुंभ मेला

Question ID : 9895808465
Chosen Option : 4

Q.5 प्रश्नों का उत्तर देने के लिए निम्नलिखित पाई-चार्ट का ध्यानपूर्वक अध्ययन करें।

पाँच अलग-अलग गाँवों में बच्चों की संख्या का प्रतिशत



गाँव A से गाँव C के कुल बच्चों की संख्या का अनुपात क्या है?

- Ans
- 1. 3:5
 - 2. 1:3
 - 3. 3:2

4. 2:3

Question ID : 9895808687
Chosen Option : 3

Q.5 क्रेपटाउन में टेस्ट मैच खेले वाली भारतीय क्रिकेट टीम की औसत आयु 28 वर्ष है। यदि कप्तान के अलावा अन्य 10 खिलाड़ियों की औसत आयु 27.8 वर्ष है, तो कप्तान की आयु है:

- Ans
1. 26 वर्ष
2. 31 वर्ष
3. 30 वर्ष
4. 25 वर्ष

Question ID : 9895808669
Chosen Option : 3

Q.5 एक विक्रेता अपने ग्राहकों को 25% की छूट देता है और फिर भी 25% का लाभ कमाता है। यदि वस्तु की लागत विक्रेता को 1600 रुपये आती है, तो उसका अंकित मूल्य (निकटतम एक ₹ तक) है:

- Ans
1. ₹ 2600
2. ₹ 2050
3. ₹ 2000
4. ₹ 2667

Question ID : 9895808670
Chosen Option : 2

Q.5 निम्नलिखित में से कौन-सी ब्याज गणना योजना एक वर्ष में अधिकतम ब्याज देगी?

- Ans
1. 2% प्रति माह की दर पर मासिक आधार पर चक्रवृद्धित ब्याज
2. प्रति 6 माह के लिए 12% की दर पर प्रत्येक छमाही आधार पर चक्रवृद्धित ब्याज
3. 24% प्रति वर्ष की दर पर प्रत्येक वर्ष चक्रवृद्धित ब्याज
4. 6% प्रति तिमाही की दर पर तिमाही आधार पर चक्रवृद्धित ब्याज

Question ID : 9895808679
Chosen Option : 1

Q.5 एक समलम्ब चतुर्भुज की समानांतर भुजाओं के बीच लंबवत दूरी (cm में) क्या है जिसका क्षेत्रफल 108 cm^2 है, और समानांतर भुजाओं की लंबाई 9 cm और 36 cm है?

- Ans
1. 6 cm
2. 3.6 cm
3. 7 cm
4. 4.8 cm

Question ID : 9895808684
Chosen Option : 2

Q.5
6 प्रश्नों का उत्तर देने के लिए निम्नलिखित पाई-चार्ट का ध्यानपूर्वक अध्ययन करें।

पाँच अलग-अलग गाँवों में बच्चों की संख्या का प्रतिशत



यदि गाँव D से 70 प्रतिशत बच्चे स्कूल जाते हैं तो गाँव D से स्कूल जाने वाले बच्चों की संख्या कितनी है?

- Ans
1. 320
2. 400
3. 280
4. 360

Question ID : 9895808688
Chosen Option : 3

Q.5
7 एक छात्र को अधिकतम अंक के 60% अंक प्राप्त होते हैं। यदि उसे उत्तीर्ण अंक से 50% अधिक अंक प्राप्त होते हैं, फिर उत्तीर्ण होने वाले अंक अधिकतम अंकों के कितने प्रतिशत हैं?

- Ans
1. 40%
2. 75%
3. 37.5%
4. 50%

Question ID : 9895808672
Chosen Option : 1

Q.5
8 A, 12 दिनों में एक निश्चित कार्य कर सकता है। B, A की तुलना में 60% अधिक कार्य कुशल है। B को उसी कार्य को पूरा करने में कितना समय लगेगा?

- Ans
1. 7 दिन
2. 10 दिन
3. 8 दिन
4. $7 \frac{1}{2}$ दिन

Question ID : 9895808681
Chosen Option : 1

Q.5
9 50 संख्याओं का औसत 36 है। यदि दो संख्याओं 63 और 65 को छोड़ दिया जाता है, तो शेष संख्याओं का औसत है: (दशमलव के दो स्थानों तक)

- Ans
1. 32.50
2. 33.75
3. 34.83
4. 36.50

Question ID : 9895808668
Chosen Option : 2

Q.6
0 सोमवार को दोपहर 1 बजे से रात 8 बजे तक एक दुकान में हर घंटे आगंतुकों की संख्या 7, 10, 15, 22, 6, 4 और 13 के रूप में दर्ज की गई थी। आगंतुकों की संख्या का गणितीय माध्य है:

- Ans
- 1. 13
 - 2. 9
 - 3. 11
 - 4. 10

Question ID : 9895808671
Chosen Option : 4

Q.6
1 30% प्रति वर्ष की साधारण ब्याज दर पर एक धनराशि कितने वर्षों में सोलह गुना हो जायेगा?

- Ans
- 1. 30
 - 2. 40
 - 3. 50
 - 4. 25

Question ID : 9895808678
Chosen Option : 3

Q.6
2 9 और 15 का तृतीयानुपाती है:

- Ans
- 1. 27
 - 2. 36
 - 3. 25
 - 4. 18

Question ID : 9895808675
Chosen Option : 3

Q.6
3 एक पेंटिंग की लंबाई और चौड़ाई क्रमशः 15 cm और 10 cm है। पेंटिंग के चारों ओर 1 cm चौड़ा किनारा बनाया गया है। किनारे का क्षेत्रफल कितना है?

- Ans
- 1. 54 cm²
 - 2. 16 cm²
 - 3. 60 cm²
 - 4. 45 cm²

Question ID : 9895808685
Chosen Option : --

Q.6
4 यदि $\frac{a}{b} = \frac{7}{9}$, $\frac{b}{c} = \frac{3}{5}$ तो a : b : c का मान है:

- Ans
- 1. 7:9:5
 - 2. 7:9:15
 - 3. 21:27:42
 - 4. 7:3:15

Question ID : 9895808677
Chosen Option : 2

Q.6
5 निम्न प्रश्न में प्रश्न चिह्न (?) के स्थान पर क्या आयेगा?

$$383 \div 25 \times 2.5 + 12 = ?$$

- Ans
- 1. 50.30
 - 2. 68.30
 - 3. 222.14
 - 4. 124.24

Question ID : 9895808666
Chosen Option : 1

Q.6
6 एक घन का कुल पृष्ठ क्षेत्रफल ज्ञात कीजिए जिसका आयतन 64 cm^3 है।

- Ans
- 1. 16 cm^2
 - 2. 96 cm^2
 - 3. 84 cm^2
 - 4. 64 cm^2

Question ID : 9895808686
Chosen Option : 1

Q.6
7 6 और 12 प्रत्येक से विभाजित होने वाली सबसे छोटी पूर्ण वर्ग संख्या है:

- Ans
- 1. 144
 - 2. 108
 - 3. 36
 - 4. 196

Question ID : 9895808665
Chosen Option : 3

Q.6
8 निम्न प्रश्न में प्रश्न चिह्न (?) के स्थान पर क्या आयेगा?

$$1.5 \times 78 \div 0.5 = ?$$

- Ans
- 1. 216
 - 2. 243
 - 3. 238
 - 4. 234

Question ID : 9895808667
Chosen Option : 4

Q.6
9 यशवंत 40 रुपये में 15 की दर से कैंडी खरीदता है और उन्हें 50 रुपये में 30 कैंडी की दर से बेचता है। उसका लाभ या हानि प्रतिशत क्या है?

- Ans
- 1. 37.5% लाभ
 - 2. 36% लाभ
 - 3. 37.5% हानि

4. 40% हानि

Question ID : 9895808673
Chosen Option : 1

Q.7 3 रुपये में 7 संतरे की दर से संतरे खरीदे जाते हैं। किस कीमत पर 100 संतरे बेचे जाने चाहिए ताकि लाभ 33% हो?

Ans

1. ₹ 58

2. ₹ 56

3. ₹ 57

4. ₹ 60

Question ID : 9895808674
Chosen Option : 3

Q.7 रोहित और दिनेश एक दूसरे से 64 किमी दूर हैं। रोहित 15 किमी प्रति घंटे की गति से चल सकता है और दिनेश 17 किमी प्रति घंटे की गति से चल सकता है। वे दोनों एक दूसरे को कितने घंटे में मिलेंगे यदि वे एक दूसरे की ओर जा रहे हैं?

Ans

1. 3 घंटे

2. 1.5 घंटे

3. 2 घंटे

4. 2.5 घंटे

Question ID : 9895808683
Chosen Option : 3

Q.7 दो बोटल A और B में तनुकृत अम्ल है। बोटल A में, पानी की मात्रा अम्ल की मात्रा से दोगुनी है जबकि बोटल B में, अम्ल की मात्रा पानी की तीन गुनी है। बोटल A और B में से क्रमशः कितनी मात्रा (लीटर में) ली जानी चाहिए कि पानी और अम्ल की बराबर मात्रा से युक्त 5 लीटर तनुकृत अम्ल, प्राप्त हो ?

Ans

1. 1,4

2. 4,1

3. 2,3

4. 3,2

Question ID : 9895808676
Chosen Option : --

Q.7 एक मेंढक, 80 मीटर गहरे कुएँ के तल पर था। इसने छलांग लगाकर इससे बाहर आने का प्रयास किया। प्रत्येक कूद में यह 1.15 मीटर की दूरी तय करता था किन्तु 0.75 मीटर नीचे फिसल जाता था। कूदने की संख्या कितनी होगी जिसके बाद वह कुएँ से बाहर आ जायेगा।

Ans

1. 199

2. 201

3. 198

4. 200

Question ID : 9895808680
Chosen Option : 3

Q.7
4 विपरीत दिशाओं में चलने वाली दो ट्रेनें प्लेटफॉर्म पर खड़े एक व्यक्ति को क्रमशः 25 सेकंड और 32 सेकंड में पार करती हैं और वे 30 सेकंड में एक - दूसरे को पार करती हैं। उनकी गति का अनुपात है:

Ans

- ✓ 1. 2 : 5
✗ 2. 1 : 3
✗ 3. 4 : 3
✗ 4. 5 : 6

Question ID : 9895808682
Chosen Option : --

Q.7
5 प्रश्नों का उत्तर देने के लिए निम्नलिखित पाई-चार्ट का ध्यानपूर्वक अध्ययन करें।

पाँच अलग-अलग गाँवों में बच्चों की संख्या का प्रतिशत



गांव B और E के बच्चों की कुल संख्या कितनी है?

Ans

- ✓ 1. 1100
✗ 2. 1200
✗ 3. 1145
✗ 4. 1400

Question ID : 9895808689
Chosen Option : 1

Section : English Language

Q.1 Identify the segment in the sentence which contains the grammatical error from the given options.

It was in the oceans that life begins almost 3.5 billion years ago.

Ans

- ✓ 1. It was
✗ 2. life begins
✗ 3. in the oceans
✗ 4. years ago

Question ID : 9895808743
Chosen Option : --

Q.2 Select the synonym of the given word.

REMORSE

- Ans
- 1. Delight
 - 2. Regret
 - 3. Solace
 - 4. Joy

Question ID : 9895808755

Chosen Option : --

Q.3 Select the meaning of the given idiom.

Call it a day

- Ans
- 1. name a day
 - 2. time to quit
 - 3. a nightmare
 - 4. an unending dream

Question ID : 9895808759

Chosen Option : --

Q.4 Select the most appropriate word to fill in the blank.

In his address to the villagers the minister _____ certain measures being taken for improving their quality of life.

- Ans
- 1. learnt
 - 2. staged
 - 3. stepped
 - 4. highlighted

Question ID : 9895808766

Chosen Option : --

Q.5 Select the most appropriate word to fill in the blank.

The unemployment problem, as _____ by people, is not severe among the educated women.

- Ans
- 1. demanded
 - 2. solved
 - 3. decided
 - 4. perceived

Question ID : 9895808765

Chosen Option : --

Q.6 Select the most appropriate option to substitute the underlined segment in the given sentence. If there is no need to substitute it, select No substitution required.

Amoeba is a microscopic single-celled organism found in pond water.

- Ans
- 1. organisms finds in
 - 2. No substitution required
 - 3. organism found with
 - 4. organisms find in

Question ID : 9895808746

Chosen Option : --

Q.7 Select the wrongly spelt word.

- Ans
- 1. Mischievous
 - 2. Minimum
 - 3. Miniscule
 - 4. Milenium

Question ID : 9895808764

Chosen Option : --

Q.8 Identify the segment in the sentence which contains the grammatical error from the given options.

Time and technology are two important factors that which change substances into resources.

- Ans
- 1. Time and technology
 - 2. that which change
 - 3. into resources
 - 4. two important factors

Question ID : 9895808741

Chosen Option : --

Q.9 Select the synonym of the given word.

Valiant

- Ans
- 1. Enthusiastic
 - 2. Scared
 - 3. Courageous
 - 4. Frightened

Question ID : 9895808756

Chosen Option : --

Comprehension:

In the following passage some words have been deleted. Fill in the blanks with the help of the alternatives given. Select the most appropriate option for each number.

Advertisements (1) _____ our attention to various products and describe (2) _____ positively so that we become (3) _____ in buying them. Advertising is all (4) _____ building brands. At a very basic level, 'branding' means (5) _____ a product with a particular name or sign.

SubQuestion No : 10

Q.10 Select the most appropriate option that will fill in the blank number 1.

- Ans
- 1. draw
 - 2. hook
 - 3. turn

4. pull

Question ID : 9895808750
Chosen Option : --

Comprehension:

In the following passage some words have been deleted. Fill in the blanks with the help of the alternatives given. Select the most appropriate option for each number.

Advertisements (1) _____ our attention to various products and describe (2) _____ positively so that we become (3) _____ in buying them. Advertising is all (4) _____ building brands. At a very basic level, 'branding' means (5) _____ a product with a particular name or sign.

SubQuestion No : 11

Q.1
1 Select the most appropriate option that will fill in the blank number 2.

- Ans
- 1. it
 - 2. themselves
 - 3. they
 - 4. them

Question ID : 9895808751
Chosen Option : --

Comprehension:

In the following passage some words have been deleted. Fill in the blanks with the help of the alternatives given. Select the most appropriate option for each number.

Advertisements (1) _____ our attention to various products and describe (2) _____ positively so that we become (3) _____ in buying them. Advertising is all (4) _____ building brands. At a very basic level, 'branding' means (5) _____ a product with a particular name or sign.

SubQuestion No : 12

Q.1
2 Select the most appropriate option that will fill in the blank number 3.

- Ans
- 1. partial
 - 2. touched
 - 3. biased
 - 4. interested

Question ID : 9895808752
Chosen Option : --

Comprehension:

In the following passage some words have been deleted. Fill in the blanks with the help of the alternatives given. Select the most appropriate option for each number.

Advertisements (1) _____ our attention to various products and describe (2) _____ positively so that we become (3) _____ in buying them. Advertising is all (4) _____ building brands. At a very basic level, 'branding' means (5) _____ a product with a particular name or sign.

SubQuestion No : 13

Q.1
3 Select the most appropriate option that will fill in the blank number 4.

- Ans
- 1. about
 - 2. in
 - 3. across
 - 4. for

Question ID : 9895808753
Chosen Option : --

Comprehension:

In the following passage some words have been deleted. Fill in the blanks with the help of the alternatives given. Select the most appropriate option for each number.

Advertisements (1) _____ our attention to various products and describe (2) _____ positively so that we become (3) _____ in buying them. Advertising is all (4) _____ building brands. At a very basic level, 'branding' means (5) _____ a product with a particular name or sign.

SubQuestion No : 14

Q.1
4 Select the most appropriate option that will fill in the blank number 5.

- Ans
- 1. stamping
 - 2. sticking
 - 3. posing
 - 4. molding

Question ID : 9895808754
Chosen Option : --

Q.1
5 Select the antonym of the given word.

FACILITATE

- Ans
- 1. Aid
 - 2. Hinder
 - 3. Comfort
 - 4. Ease

Question ID : 9895808758

Chosen Option : --

Q.1
6 Select the word which means the same as the group of words given.

One who can easily be deceived/cheated

- Ans
- 1. Veteran
 - 2. Gullible
 - 3. Modest
 - 4. Prudent

Question ID : 9895808762

Chosen Option : --

Q.1
7 Select the most appropriate word to fill in the blank.

Some tribes have rich and unique cultural traditions, _____ their own language.

- Ans
- 1. including
 - 2. included
 - 3. include
 - 4. inclusive

Question ID : 9895808747

Chosen Option : --

Q.1
8 Select the word which means the same as the group of words given.

One who knows everything

- Ans
- 1. Omnipresent
 - 2. Omniscient
 - 3. Incredible
 - 4. Omnipotent

Question ID : 9895808761

Chosen Option : --

Q.1
9 Select the antonym of the given word.

CRITICIZE

- Ans
- 1. Censure
 - 2. Condemn
 - 3. Respect
 - 4. Commend

Question ID : 9895808757

Chosen Option : --

Q.2
0 Select the most appropriate option to substitute the underlined segment in the given sentence. If there is no need to substitute it, select No substitution required.

Water and minerals presented to the soil are absorbed by the roots.

- Ans
- 1. No substitution required

- 2. present for the soil
- 3. presented at the soil
- 4. present in the soil

Question ID : 9895808744
Chosen Option : --

Q.2
1 Select the wrongly spelt word.

- Ans
- 1. Discipline
 - 2. Consensus
 - 3. Occasion
 - 4. Neccessary

Question ID : 9895808763
Chosen Option : --

Q.2
2 Select the meaning of the given idiom.

Piping hot

- Ans
- 1. Not too hot
 - 2. Lukewarm
 - 3. Steaming hot
 - 4. Extremely angry

Question ID : 9895808760
Chosen Option : --

Q.2
3 Identify the segment in the sentence which contains the grammatical error from the given options.

People's demand are ever growing but the availability of land is limited.

- Ans
- 1. is limited
 - 2. People's demand
 - 3. availability of
 - 4. ever growing

Question ID : 9895808742
Chosen Option : --

Q.2
4 Select the most appropriate word to fill in the blank.

_____ many people lived in the cities, others living in the countryside grew crops.

- Ans
- 1. About
 - 2. Whether
 - 3. Among
 - 4. While

Question ID : 9895808748
Chosen Option : --

Q.2 Select the most appropriate option to substitute the underlined segment in the given sentence. If there is no need to substitute it, select No substitution required.

Normally bacteria are present in our mouth but it is not harmful to us.

- Ans
1. No substitution required
2. and it is not
3. but they are not
4. so they are not

Question ID : 9895808745

Chosen Option : --

Section : Hindi Language

Q.1 दिए गए शब्द का विलोम चुनें।

आत्मघात

- Ans
1. आत्मज्ञान
2. आत्मबल
3. आत्मविश्वास
4. आत्मरक्षा

Question ID : 9895806985

Chosen Option : 4

Q.2 रिक्त स्थान को भरने के लिए उपयुक्त शब्द का चयन करें।

26 जनवरी का दिन हमारे देशवासियों के लिए _____ पर्व है।

- Ans
1. सामाजिक
2. राष्ट्रीय
3. धार्मिक
4. आध्यात्मिक

Question ID : 9895806977

Chosen Option : 2

Q.3 रिक्त स्थान को भरने के लिए उपयुक्त शब्द का चयन करें।

अध्ययन से ज्ञान बढ़ता है, आर्थिक शक्ति मजबूत होती है _____ यश प्राप्त होता है।

- Ans
1. और
2. पर्याप्त
3. ढेर-सा
4. बहुत

Question ID : 9895806976

Chosen Option : 1

Q.4 'बढ़ा लगाना' मुहावरे का अर्थ है-

Ans

- 1. सम्मान होना
- 2. अपमान होना
- 3. कलंक लगाना
- 4. झूठ बोलना

Question ID : 9895806989
Chosen Option : 3

Q.5 'एक उदर से जन्म' लेने वालों के लिए एक शब्द प्रयुक्त होता है-

- Ans
- 1. पेट
 - 2. उत्तम
 - 3. समान
 - 4. सहोदर

Question ID : 9895806992
Chosen Option : 4

Q.6 रिक्त स्थान को भरने के लिए उपयुक्त शब्द का चयन करें।

बड़े दुख की बात है _____ आप जैसे स्नेही मित्र के घर भी मैं विवाह के अवसर पर न आ सका।

- Ans
- 1. हम
 - 2. मैं
 - 3. आत्मीय
 - 4. कि

Question ID : 9895806975
Chosen Option : 4

Q.7 'कमल' का पर्यायवाची शब्द है-

- Ans
- 1. कनक
 - 2. फूल
 - 3. जलज
 - 4. सुरभि

Question ID : 9895806988
Chosen Option : 3

Q.8 दिए गए वाक्य का वह भाग ज्ञात करें जिसमें कोई त्रुटि है।

मैं आवश्यक परिस्थितियों की उत्पन्न हो जाने के कारण बैठक में उपस्थित नहीं हो सकता।

- Ans
- 1. उपस्थित नहीं हो सकता।
 - 2. बैठक में
 - 3. परिस्थितियों की उत्पन्न हो जाने के कारण
 - 4. मैं आवश्यक

Question ID : 9895806969

Chosen Option : 3

Q.9 दिये गये वाक्यांश के लिए एक शब्द दीजिये।

व्याकरण जानने वाला

- Ans
- 1. काव्यशास्त्री
 - 2. दार्शनिक
 - 3. वैयाकरण
 - 4. आचार्य

Question ID : 9895806991
Chosen Option : 3

Q.1 0 दिए गए शब्द के पर्यायवाची शब्द का चयन करें।

मृग

- Ans
- 1. हाथी
 - 2. बादल
 - 3. हिरण
 - 4. पवन

Question ID : 9895806987
Chosen Option : 3

Q.1 1 दिए गए वाक्य का वह भाग ज्ञात करें जिसमें कोई त्रुटि है।

तुष्टीकरण की नीति अपनाकर न व्यक्ति आगे बढ़ सकती है और न राष्ट्र।

- Ans
- 1. और न राष्ट्र।
 - 2. अपनाकर
 - 3. तुष्टीकरण की नीति
 - 4. न व्यक्ति आगे बढ़ सकती है

Question ID : 9895806971
Chosen Option : 4

Q.1 2 दिए गए वाक्य में रेखांकित खंड को प्रतिस्थापित करने के लिए उपयुक्त विकल्प का चयन करें।

विष्णु के अनेक अभिधान हैं।

- Ans
- 1. लीला
 - 2. नाम
 - 3. रूप
 - 4. धाम

Question ID : 9895806972
Chosen Option : 3

Q.1 3 सही वर्तनी वाले शब्द का चयन करें।

- Ans
- 1. सेनिक
 - 2. सैनीक
 - 3. सैनिक
 - 4. सेनीक

Question ID : 9895806993
Chosen Option : 3

- Q.1
4 दिए गए वाक्य का वह भाग ज्ञात करें जिसमें कोई त्रुटि है।
मनुष्य का आवश्यकताओं के लिए तो बहुत कुछ है परंतु उसके लोभ के लिए कुछ भी नहीं है।

- Ans
- 1. तो बहुत कुछ है
 - 2. परंतु उसके लोभ के लिए
 - 3. मनुष्य का आवश्यकताओं के लिए
 - 4. कुछ भी नहीं है।

Question ID : 9895806970
Chosen Option : 1

- Q.1
5 'मैदान मारना' मुहावरे का अर्थ है-

- Ans
- 1. संघर्ष करना
 - 2. जमीन नापना
 - 3. लड़ाई जीतना
 - 4. भाग जाना

Question ID : 9895806990
Chosen Option : 3

- Q.1
6 सही वर्तनी वाले शब्द का चयन करें।

- Ans
- 1. अभियस्थ
 - 2. अभयस्थ
 - 3. अभ्यस्त
 - 4. अभयस्थ

Question ID : 9895806994
Chosen Option : 3

- Q.1
7 रिक्त स्थान को भरने के लिए उपयुक्त शब्द का चयन करें।

गोपाल आजकल चित्रकला का _____ कर रहा है।

- Ans
- 1. प्रयास
 - 2. अभ्यास
 - 3. व्यायाम
 - 4. आयास

Question ID : 9895806978
Chosen Option : 2

Q.1 दिए गए वाक्य में रेखांकित खंड को प्रतिस्थापित करने के लिए उपयुक्त विकल्प का चयन करें।

जीने का कुछ तो उद्देश्य होना चाहिए।

- Ans
- 1. प्रयोजन
 - 2. प्रबोधन
 - 3. साधन
 - 4. प्रवर्तन

Question ID : 9895806974
Chosen Option : 1

Comprehension:

निम्नलिखित गद्यांश के रिक्त स्थानों की पूर्ति गद्यांश के नीचे दिए गए प्रश्नों के अनुसार कीजिए-

विश्व पर्यावरण दिवस हर साल 5 जून को पूरे विश्व में पर्यावरण सुरक्षा हेतु जनता में _____ (1) का प्रसार करने के लिए मनाया जाता है। भारत सरकार पर्यावरण को सुधारने के लिए काफी अभियान _____ (2) है। हाल ही में स्वच्छ भारत _____ (3) शुरू किया गया है। सरकार के साथ साथ _____ (4) आदमी को भी प्रण लेना चाहिए की वो वातावरण को साफ रखे। छोटी सी _____ (5) से हम अपने और अपने आस-पास के वातावरण को साफ रख सकते हैं।

SubQuestion No : 19

Q.1 गद्यांश में संकेतित रिक्त स्थान (1) के लिए उपयुक्त शब्द होगा।

- Ans
- 1. स्वाधीनता
 - 2. समानता
 - 3. अज्ञानता
 - 4. जागरूकता

Question ID : 9895806980
Chosen Option : 4

Comprehension:

निम्नलिखित गद्यांश के रिक्त स्थानों की पूर्ति गद्यांश के नीचे दिए गए प्रश्नों के अनुसार कीजिए-

विश्व पर्यावरण दिवस हर साल 5 जून को पूरे विश्व में पर्यावरण सुरक्षा हेतु जनता में _____ (1) का प्रसार करने के लिए मनाया जाता है। भारत सरकार पर्यावरण को सुधारने के लिए काफी अभियान _____ (2) है। हाल ही में स्वच्छ भारत _____ (3) शुरू किया गया है। सरकार के साथ साथ _____ (4) आदमी को भी प्रण लेना चाहिए की वो वातावरण को साफ़ रखे। छोटी सी _____ (5) से हम अपने और अपने आस-पास के वातावरण को साफ़ रख सकते हैं।

SubQuestion No : 20

Q.2
0 गद्यांश में संकेतित रिक्त स्थान (2) के लिए उपयुक्त शब्द होगा।

- Ans
- 1. सजाती
 - 2. चलाती
 - 3. बताती
 - 4. मनाती

Question ID : 9895806981
Chosen Option : 2

Comprehension:

निम्नलिखित गद्यांश के रिक्त स्थानों की पूर्ति गद्यांश के नीचे दिए गए प्रश्नों के अनुसार कीजिए-

विश्व पर्यावरण दिवस हर साल 5 जून को पूरे विश्व में पर्यावरण सुरक्षा हेतु जनता में _____ (1) का प्रसार करने के लिए मनाया जाता है। भारत सरकार पर्यावरण को सुधारने के लिए काफी अभियान _____ (2) है। हाल ही में स्वच्छ भारत _____ (3) शुरू किया गया है। सरकार के साथ साथ _____ (4) आदमी को भी प्रण लेना चाहिए की वो वातावरण को साफ़ रखे। छोटी सी _____ (5) से हम अपने और अपने आस-पास के वातावरण को साफ़ रख सकते हैं।

SubQuestion No : 21

Q.2
1 गद्यांश में संकेतित रिक्त स्थान (3) के लिए उपयुक्त शब्द होगा।

- Ans
- 1. उत्सव
 - 2. मनोरंजन
 - 3. अभिमान
 - 4. अभियान

Question ID : 9895806982
Chosen Option : 4

Comprehension:

निम्नलिखित गद्यांश के रिक्त स्थानों की पूर्ति गद्यांश के नीचे दिए गए प्रश्नों के अनुसार कीजिए-

विश्व पर्यावरण दिवस हर साल 5 जून को पूरे विश्व में पर्यावरण सुरक्षा हेतु जनता में _____ (1) का प्रसार करने के लिए मनाया जाता है। भारत सरकार पर्यावरण को सुधारने के लिए काफी अभियान _____ (2) है। हाल ही में स्वच्छ भारत _____ (3) शुरू किया गया है। सरकार के साथ साथ _____ (4) आदमी को भी प्रण लेना चाहिए की वो वातावरण को साफ़ रखे। छोटी सी _____ (5) से हम अपने और अपने आस-पास के वातावरण को साफ़ रख सकते हैं।

SubQuestion No : 22

Q.2
2 गद्यांश में संकेतित रिक्त स्थान (4) के लिए उपयुक्त शब्द होगा।

- Ans
- 1. खास
 - 2. गरीब
 - 3. अमीर
 - 4. आम

Question ID : 9895806983
Chosen Option : 4

Comprehension:

निम्नलिखित गद्यांश के रिक्त स्थानों की पूर्ति गद्यांश के नीचे दिए गए प्रश्नों के अनुसार कीजिए-

विश्व पर्यावरण दिवस हर साल 5 जून को पूरे विश्व में पर्यावरण सुरक्षा हेतु जनता में _____ (1) का प्रसार करने के लिए मनाया जाता है। भारत सरकार पर्यावरण को सुधारने के लिए काफी अभियान _____ (2) है। हाल ही में स्वच्छ भारत _____ (3) शुरू किया गया है। सरकार के साथ साथ _____ (4) आदमी को भी प्रण लेना चाहिए की वो वातावरण को साफ़ रखे। छोटी सी _____ (5) से हम अपने और अपने आस-पास के वातावरण को साफ़ रख सकते हैं।

SubQuestion No : 23

Q.2
3 गद्यांश में संकेतित रिक्त स्थान (5) के लिए उपयुक्त शब्द होगा।

- Ans
- 1. चहल
 - 2. टहल
 - 3. पहल
 - 4. प्रयास

Question ID : 9895806984
Chosen Option : 3

Q.2
4 दिए गए शब्द का विलोम चुनें।

अल्पायु

- Ans
- 1. घायल
 - 2. दयालु
 - 3. दीर्घायु
 - 4. अजर

Question ID : 9895806986
Chosen Option : 3

Q.2
5 दिए गए वाक्य में रेखांकित खंड को प्रतिस्थापित करने के लिए उपयुक्त विकल्प का चयन करें।

प्राचार्य महोदय ने उसे घर जाने की अनुमति प्रदान कर दी।

- Ans
- 1. अवज्ञा
 - 2. प्रजा
 - 3. आज्ञा
 - 4. अनुज्ञा

Question ID : 9895806973
Chosen Option : 3

KD Job Updates

Constable (GD) in CAPFs, NIA, SSF and Rifleman (GD) in Assam Rifles Examination, 2018

Roll No. :	
Registration No.	
Name :	
Exam Venue :	
Exam Time :	12:30 PM - 2:00 PM
Exam Date :	07/03/2019

Section : General Section

Q.1 चार विकल्प दिए गए हैं, जिनमें से तीन किसी तरह से समान हैं, जबकि एक अलग है। असंगत का चयन करें।

- Ans
- 1. 46
 - 2. 28
 - 3. 54
 - 4. 82

Question ID : 9895808809
Chosen Option : 3

Q.2 यदि LIFE को 76 लिखा जाता है, तो LIVE को कैसे लिखा जाएगा?

- Ans
- 1. 58
 - 2. 55
 - 3. 54
 - 4. 60

Question ID : 9895808800
Chosen Option : 4

Q.3 उस विकल्प आकृति का चयन करें, जिसमें प्रश्न आकृति छिपी हुई /अंतर्निहित है।

प्रश्न आकृति:



Ans

- 1.
- 2.
- 3.
- 4.

Question ID : 9895808814
Chosen Option : 4

Q.4 नीचे दिए गए कथनों के बाद दो निष्कर्ष I और II दिए गए हैं। यह मानते हुए कि कथनों में दी गई जानकारी सत्य है, भले ही वह सर्वज्ञात तथ्यों से भिन्न प्रतीत होती हो और यह निर्णय करें कि कौन सा/से निष्कर्ष तार्किक और निश्चित रूप से कथन में दी गई जानकारी का अनुसरण करता है/करते हैं।

कथन :

कुछ बकरियाँ, पहिये हैं।

सभी सड़कें, पहिये हैं।

कुछ कारें, सड़कें हैं।

निष्कर्ष :

I. कुछ कारें पहिये हैं।

II. सभी बकरियाँ कारें हैं।

Ans

1. निष्कर्ष I या II सत्य है।
2. केवल निष्कर्ष II सत्य है।
3. केवल निष्कर्ष I सत्य है।
4. न तो निष्कर्ष I न ही II सत्य है।

Question ID : 9895808804
Chosen Option : 4

Q.5 यदि '+' का अर्थ '-', 'x' का अर्थ '+', ÷ का अर्थ '+', और '-' का अर्थ 'x', तो:

$$46 \times 2 - 4 \div 8 = ?$$

Ans

1. 100
2. 95
3. 105
4. 120

Question ID : 9895808811
Chosen Option : 1

Q.6 उस विकल्प का चयन करें जो सही रूप में रिक्त स्थान की पूर्ति करते हुए श्रृंखला को पूरा करें।

ZYX, SRQ, LKJ, ?

Ans

1. EDC
2. EDF
3. MED
4. FDC

Question ID : 9895808793
Chosen Option : 1

Q.7

दिए गए विकल्पों में से संबंधित शब्द युगल का चयन करें।

वर्णमाला : शब्दकोश :: _____ : _____

Ans

1. लेखक : प्रश्न
2. कीबोर्ड : सीपीयू
3. समाचार : साझेदारी
4. अधिकार : संविधान

Question ID : 9895808797
Chosen Option : 2

Q.8 चार शब्द दिए गए हैं, जिनमें से तीन किसी तरह से समान हैं, जबकि एक अलग है। असंगत शब्द का चयन करें।

Ans

1. झुंड
2. पशु समूह
3. दल
4. हंस

Question ID : 9895808795
Chosen Option : 4

Q.9 आठ दोस्त P, Q, R, S, T, V, W और Y एक वृत्त के चौतरफा केंद्र की ओर मुख किये बैठे हैं, किन्तु आवश्यक नहीं की उसी क्रम में। R, T के बाएं से तीसरे स्थान पर बैठा है। Y, T का तुरंत पड़ोसी है। W, S के दाएं से दूसरे स्थान पर बैठा है। S, R का तुरंत पड़ोसी नहीं है। W और V के बीच केवल एक व्यक्ति बैठा है। Q, W या V में से किसी का तुरंत पड़ोसी नहीं है।

दी गयी बैठक व्यवस्था के अनुसार निम्नलिखित में से कौन सा कथन सत्य है?

Ans



1. Y, W के दाएं से दूसरे स्थान पर बैठा है।
2. S और Q दोनों P के पड़ोसी हैं।
3. Y और Q की ठीक बीच में T बैठा है।
4. S और Y एक दूसरे के पड़ोसी हैं।


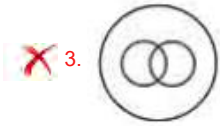
Question ID : 9895808801
Chosen Option : 4

Q.1 वेन आरेख का चयन करें जो दिए गए तीन वर्गों के बीच के संबंध को सर्वोत्तम दर्शाता है।

समकोण, अधिक कोण और प्रतिवर्ती कोण

Ans

1. 
2. 



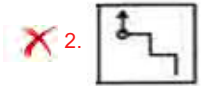
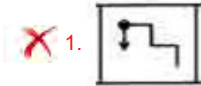
Question ID : 9895808817
Chosen Option : 2

Q.1 1 उस विकल्प का चयन करें जो दर्पण के दायीं ओर रखे जाने पर दि गई आकृति की दर्पण छवि से सर्वाधिक मेल खाता है।

प्रश्न आकृति:



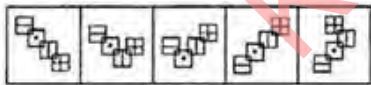
Ans



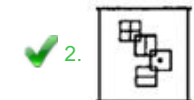
Question ID : 9895808815
Chosen Option : 3

Q.1 2 दिए गए आकृति श्रंखला में आगे आने वाले विकल्प को चुनें।

प्रश्न आकृति



Ans



Question ID : 9895808812
Chosen Option : 4

Q.1 उस विकल्प का चयन करें जो तीसरे पद से उसी तरह संबंधित है जिस प्रकार दूसरा पद पहले पद से संबंधित है।

3

ARH : RHA :: GTY : ?

Ans

- ✓ 1. YTG
 ✗ 2. TGY
 ✗ 3. YGT
 ✗ 4. GYT

Question ID : 9895808798

Chosen Option : 1

Q.1 नीचे दिए गए कथनों के बाद दो निष्कर्ष I और II दिए गए हैं। यह मानते हुए कि कथनों में दी गई जानकारी सत्य है, भले ही वह सर्वज्ञात तथ्यों से भिन्न प्रतीत होती हो और यह निर्णय करें कि कौन सा/से निष्कर्ष तार्किक और निश्चित रूप से कथन में दी गई जानकारी का अनुसरण करता है/करते हैं।

4

कथन :

- I. कुछ मौसम बरसात हैं।
 II. कुछ ग्रीष्म मौसम हैं।

निष्कर्ष:

- I. कुछ ग्रीष्म बरसात हैं।
 II. कुछ मौसम ग्रीष्म हैं।

Ans

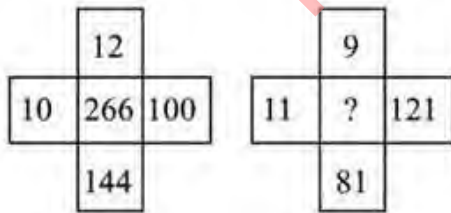
- ✗ 1. केवल निष्कर्ष I लागू होता है।
 ✗ 2. निष्कर्ष I और II दोनों अनुसरण करते हैं।
 ✓ 3. केवल निष्कर्ष II अनुसरण करता है।
 ✗ 4. न तो निष्कर्ष I और न ही निष्कर्ष II अनुसरण करता है।

Question ID : 9895808805

Chosen Option : 3

Q.1 दिए गए विकल्पों में से लुप्त संख्या ज्ञात करें।

5



Ans

- ✗ 1. 242
 ✗ 2. 264
 ✗ 3. 287
 ✓ 4. 222

Question ID : 9895808810

Chosen Option : 4

Q.1 उस विकल्प का चयन करें जो सही रूप में रिक्त स्थान की पूर्ति करते हुए श्रृंखला को पूरा करें।

6

37, 50, 65, 82, 101, ?

- Ans
- 1. 132
 - 2. 127
 - 3. 122
 - 4. 121

Question ID : 9895808806
Chosen Option : 3

- Q.1
7 (i) K, L, M, N, O, P और Q एक मेज के चारों ओर केन्द्र की ओर मुख करके बैठे हैं।
(ii) L, N और O के बीच में बैठा है।
(iii) K, O के बाएं से तीसरे स्थान पर है।
(iv) Q, M के बाएं से दूसरे स्थान पर है जो कि P के तुरंत बायीं ओर है।

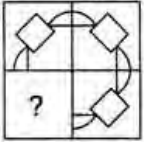
निम्न में से कौन से युग्म में पहला व्यक्ति, दूसरे व्यक्ति के तुरंत बायीं ओर बैठा है?

- Ans
- 1. LN
 - 2. LO
 - 3. QN
 - 4. MK

Question ID : 9895808802
Chosen Option : 1

- Q.1
8 निम्नलिखित में से कौन सी उत्तर आकृति दी गई आकृति को पूरा करेगी?

प्रश्न आकृति:



- Ans
- 1.
 - 2.
 - 3.
 - 4.

Question ID : 9895808813
Chosen Option : 4

- Q.1
9 चार अक्षर समूह दिए गए हैं, जिनमें से तीन किसी तरह से समान हैं, जबकि एक अलग है। असंगत अक्षर समूह का चयन करें।

- Ans 1. JLK
 2. RTV
 3. MOQ
 4. SUW

Question ID : 9895808794
 Chosen Option : 1

Q.2 एक निश्चित कूट में, SMALL को VPDOO के रूप में कूटबद्ध किया जाता है, तो उस कोड में HUGE कैसे कूटबद्ध किया जाता है?

- Ans 1. KXHJ
 2. KXJH
 3. KHJX
 4. JHXX

Question ID : 9895808799
 Chosen Option : 2

Q.2 उस विकल्प का चयन करें जो तीसरे पद से उसी तरह संबंधित है जिस प्रकार दूसरा पद पहले पद से संबंधित है।

497 : 387 :: 685 : ?

- Ans 1. 476
 2. 983
 3. 387
 4. 575

Question ID : 9895808808
 Chosen Option : 4

Q.2 दिए गए विकल्पों में से संबंधित शब्द युगल का चयन करें।

डैफोडिल : फूल :: _____

- Ans 1. द्राक्ष : फल
 2. चुकंदर : जड़ी बूटी
 3. अलसी : तरकारी
 4. तुलसी : पर्वतारोही

Question ID : 9895808796
 Chosen Option : --

Q.2 एक वर्गाकार पारदर्शी शीट एक पैटर्न के साथ दी गई है। जब शीट को बिंदीदार रेखा पर मोड़ा जाता है तो पैटर्न कैसा दिखाई देगा?

प्रश्न आकृति:



- Ans 1.



Question ID : 9895808816
Chosen Option : 2

Q.2
4 एक पुस्तकालय में कुछ पुस्तकें रखी हुई हैं। तीन पुस्तकें B, C और E हरी जिल्दवाली हैं जबकि बाकी पुस्तकों की जिल्द पीली है। A, D और B नयी पुस्तकें हैं जब कि बाकी पुस्तकें पुरानी हैं। A, C और B कानूनी रिपोर्ट हैं जब कि बाकी गजेटियर्स हैं। निम्नलिखित में से कौन सी पुस्तक हरे जिल्दवाली, पुरानी और कानूनी रिपोर्ट है?

- Ans
- ✗ 1. A
- ✓ 2. C
- ✗ 3. D
- ✗ 4. B

Question ID : 9895808803
Chosen Option : 2

Q.2
5 उस विकल्प का चयन करें जो सही रूप में रिक्त स्थान की पूर्ति करते हुए श्रृंखला को पूरा करें।

15, 45, 70, 90, 105, ?

- Ans
- ✗ 1. 145
- ✗ 2. 110
- ✗ 3. 120
- ✓ 4. 115

Question ID : 9895808807
Chosen Option : 4

Q.2
6 इनमें से कौन-सा लोक नृत्य राजस्थान से संबंधित है?

- Ans
- ✗ 1. डांडिया
- ✓ 2. घूमर
- ✗ 3. गिद्धा
- ✗ 4. भांगड़ा

Question ID : 9895808542
Chosen Option : 2

Q.2
7 लाल डेटा बुक वह पुस्तक है जो निम्नलिखित का रिकॉर्ड रखती है:

- Ans
- ✗ 1. चक्रवात
- ✗ 2. भूकंप

3. लुप्तप्राय प्रजातियां

4. नाभिकीय रिएक्टर्स

Question ID : 9895808559
Chosen Option : 1

Q.2
8 बिरजू महाराज किस नृत्य शैली से संबद्ध हैं?

Ans 1. कथकली

2. कथक

3. कुचिपुडी

4. मोहिनीअट्टम

Question ID : 9895808541
Chosen Option : 2

Q.2
9 खनन की प्रक्रिया जिसके द्वारा उथली गहराई पर पड़े खनिजों को सतही परत हटाकर बाहर निकाला जाता है ,उसे क्या कहा जाता है?

Ans 1. शाफ्ट-खनन

2. उत्खनन

3. बेधन (ड्रिलिंग)

4. ओपन कास्ट माइनिंग

Question ID : 9895808561
Chosen Option : --

Q.3
0 पंजाब से उस शिल्प की पहचान करें जिसमें कपड़ों पर सरल और विरल डिजाइनों में फूलों की शानदार कढ़ाई की जाती है।

Ans 1. फुलकारी

2. बलुचारी

3. पैठानी

4. बाटिक

Question ID : 9895808540
Chosen Option : --

Q.3
1 इनमें से कौन-सा साइट्रिक अम्ल का प्राथमिक स्रोत है?

Ans 1. आम

2. खट्टा दूध

3. इमली

4. नारंगी

Question ID : 9895808554
Chosen Option : 4

Q.3
2 तांबे के बर्तन पर हवा के संपर्क में आने पर हरे रंग का लेप किसका मिश्रण है?

Ans

- ✓ 1. कॉपर कार्बोनेट और कॉपर हाइड्रॉक्साइड
- ✗ 2. कॉपर सल्फेट और कॉपर ऑक्साइड
- ✗ 3. कॉपर नाइट्रेट और कॉपर कार्बोनेट
- ✗ 4. कॉपर नाइट्रेट और कॉपर हाइड्रॉक्साइड

Question ID : 9895808555
Chosen Option : --

Q.3 2018 में कोरिया में वर्ल्ड मार्शल आर्ट यूनिन द्वारा आयोजित जूनियर विश्व स्क्वे चैम्पियनशिप में स्वर्ण पदक
3 किसने जीता?

- Ans ✓ 1. सान्या पिल्लै
- ✗ 2. हनाया निसार
- ✗ 3. रजोनिया चटर्जी
- ✗ 4. नयनिका बैनर्जी

Question ID : 9895808544
Chosen Option : --

Q.3 4 लोक सभा और राज्य विधान सभाओं में एक-तिहाई सीटें किसके लिए आरक्षित हैं?

- Ans ✗ 1. अनुसूचित जाति और महिला
- ✗ 2. अनुसूचित जनजाति
- ✗ 3. अन्य पिछड़ा वर्ग
- ✓ 4. महिलाओं

Question ID : 9895808552
Chosen Option : 1

Q.3 5 इसमें केंद्र सरकार के साथ-साथ राज्य सरकार के बारे में भी सरोकार परिलक्षित होते हैं:

- Ans ✗ 1. संघ सूची
- ✗ 2. संघीय सूची
- ✗ 3. राज्य सूची
- ✓ 4. समवर्ती सूची

Question ID : 9895808553
Chosen Option : 4

Q.3 6 हमारे पाचन तंत्र के किस भाग में वसा का पाचन होता है?

- Ans ✗ 1. अग्न्याशय
- ✓ 2. छोटी आंत
- ✗ 3. पेट
- ✗ 4. बड़ी आंत

Question ID : 9895808556
Chosen Option : 2

Q.3
7 इनमें से कौन-सी वह गतिविधि नहीं है, जिसे तृतीयक क्षेत्र के अंतर्गत वर्गीकृत किया गया है?

- Ans
- 1. बैंकिंग
 - 2. मछली पकड़ना
 - 3. भंडारण
 - 4. परिवहन

Question ID : 9895808550
Chosen Option : 1

Q.3
8 बंगाल में लिखा गया पहला ऐतिहासिक उपन्यास कौन-सा था?

- Ans
- 1. इंदिराबाई
 - 2. सरस्वतीविजयम
 - 3. आनंदमठ
 - 4. अंगुरिया बिनिमाँय

Question ID : 9895808562
Chosen Option : --

Q.3
9 डॉ एम एस स्वामीनाथन से जुड़े हुए हैं:

- Ans
- 1. कृषि
 - 2. भैतिक विज्ञान
 - 3. गणित
 - 4. अर्थशास्त्र

Question ID : 9895808547
Chosen Option : 4

Q.4
0 उस्ताद बिस्मिल्लाह खान एक भारतीय संगीतकार थे जिन्होंने _____ को लोकप्रिय बनाया।

- Ans
- 1. सरोद
 - 2. तबला
 - 3. शहनाई
 - 4. सितार

Question ID : 9895808545
Chosen Option : 3

Q.4
1 निम्नलिखित में से कौन जुगाली करने वाला जानवर है?

- Ans
- 1. गाय
 - 2. कुत्ता

3. ईगल

4. शेर

Question ID : 9895808558

Chosen Option : 1

Q.4
2 भारतीय दर्शन की छह विचारधाराओं में से निम्नलिखित में से कौन सा एक है?

Ans 1. ताओ धर्म

2. सुखवाद

3. वेदान्त

4. मूर्तिपूजा

Question ID : 9895808563

Chosen Option : 3

Q.4
3 बायोगैस संयंत्र के किस हिस्से में ऑक्सीजन की अनुपस्थिति में प्रतिक्रियाएं होती हैं?

Ans 1. गैस आउटलेट

2. गैस टैंक

3. घोल

4. पाचक कक्ष

Question ID : 9895808557

Chosen Option : 2

Q.4
4 एक परिसंपत्ति जिसका ऋण का उधारकर्ता मालिक होता है और ऋण की चुकौती तक गारंटी के रूप में उपयोग करता है, उसे क्या कहा जाता है ?

Ans 1. निवेश

2. संपार्श्विक

3. पूँजी

4. त्वरित्र

Question ID : 9895808549

Chosen Option : 2

Q.4
5 निम्नलिखित में से किस राज्य में बाँक्साइट का भंडार सबसे अधिक है?

Ans 1. झारखंड

2. ओडिशा

3. तमिलनाडु

4. छत्तीसगढ़

Question ID : 9895808560

Chosen Option : 1

Q.4
6 1930 के दूसरे गोलमेज सम्मेलन में बी.आर. आंबेडकर ने क्या मांग की थी?

Ans

1. अस्पृश्यता का उन्मूलन
2. दमित वर्गों हेतु आरक्षण
3. दलितों के लिए पृथक निर्वाचक मंडल
4. हिन्दू मंदिरों में प्रवेश

Question ID : 9895808564
Chosen Option : 1

Q.4
7 स्वर्णजयंती ग्राम स्वरोजगार योजना किस वर्ष प्रारंभ की गई थी?

- Ans 1. 1995
2. 1998
3. 1999
4. 1997

Question ID : 9895808548
Chosen Option : 3

Q.4
8 भारत में स्वतंत्र और निष्पक्ष चुनाव कराने के लिए कौन सा स्वायत्त निकाय उत्तरदायी है?

- Ans 1. निर्वाचकीय परिषद
2. निर्वाचन आयोग
3. निर्वाचकीय मतपत्र
4. निर्वाचन परिषद

Question ID : 9895808551
Chosen Option : 2

Q.4
9 'इंडिया विन्स फ्रीडम' नामक पुस्तक किसके द्वारा लिखी गई है:

- Ans 1. सुभाष चंद्र बोस
2. महात्मा गांधी
3. मौलाना अबुल कलाम आज़ाद
4. राजेंद्र प्रसाद

Question ID : 9895808546
Chosen Option : 3

Q.5
0 आगा खान कप कौन-से खेल से संबंधित है?

- Ans 1. फुटबॉल
2. क्रिकेट
3. हॉकी
4. बैडमिंटन

Question ID : 9895808543

Chosen Option : 3

Q.5
1 किसी कार्यालय के कर्मचारियों का मासिक औसत वेतन ₹ 22000 है। अफसरों का औसत वेतन ₹ 28000 और जो अफसर नहीं है उनका ₹ 13000 प्रति महीने है। यदि अफसरों की संख्या 12 है तो जो अफसर नहीं है उनकी संख्या कार्यालय में कितनी है?

Ans

 1. 7 2. 9 3. 6 4. 8

Question ID : 9895808972

Chosen Option : 4

Q.5
2 किसी वस्तु को 1675 रु में बेचने पर अर्जित होनेवाला लाभ 1,025 रुपये में बेचने पर हुए हानि के समान है। वस्तु का लागत मूल्य क्या है?

Ans

 1. ₹ 1425 2. ₹ 1375 3. ₹ 1400 4. ₹ 1350

Question ID : 9895808976

Chosen Option : 4

Q.5
3 आकाश, भरत, चरण, दिनेश, महेश और नरेश के 6, 16, 21, 10, 12 और k ऑनलाइन मित्र हैं। यदि उनके साथ मित्रों की संख्या का माध्य 14 है, तो k का मान ज्ञात करें।

Ans

 1. 20 2. 19 3. 23 4. 17

Question ID : 9895808974

Chosen Option : 2

Q.5
4 निर्देश: नीचे दिए गए प्रश्नों के उत्तर देने के लिए निम्नलिखित पाई-चार्ट का ध्यानपूर्वक अध्ययन करें।
कुल छात्रों की संख्या = 8000
एक विश्वविद्यालय के विभिन्न शाखाओं में छात्रों का प्रतिशत बंटन:



यदि कला निकाय में लड़कियों की संख्या 1800 है, तो कला शाखा में लड़कों और लड़कियों का अनुपात कितना होगा?

Ans

1. 2 : 3

2. 1 : 2

3. 2 : 1

4. 1 : 1

Question ID : 9895808991

Chosen Option : 4

Q.5 एक कक्षा में लड़कियाँ और लड़कों का अनुपात 9 : 11 है, यदि कक्षा में 45 लड़कियाँ हैं तो लड़कों की संख्या ज्ञात कीजिए।

Ans

1. 45

2. 50

3. 55

4. 40

Question ID : 9895808979

Chosen Option : 3

Q.5 कोई राशि 2 वर्षों में 9 गुना होने के लिए चक्रवृद्धि ब्याज की दर कितनी प्रतिशत होनी चाहिए?

Ans

1. 100%

2. 20%

3. 200%

4. 10%

Question ID : 9895808982

Chosen Option : 3

Q.5 एक 16 m भुजा का वर्गाकार क्षेत्र एक समान चौड़ाई के मार्ग से घिरा है। मार्ग का क्षेत्रफल 144 m^2 है। मार्ग की चौड़ाई क्या होगी?

Ans

1. 1 m

2. 2 m

3. 4 m

4. 2.5 m

Question ID : 9895808988

Chosen Option : --

Q.5 एक व्यक्ति को कार से 300 km की दूरी तय करने में 5 घंटे लगते हैं। उसे अपनी गति km/hr में कितनी बढ़ानी चाहिए ताकि उसी समान दूरी को तय करने में उसे 4 घंटे का समय लगे?

Ans

1. 60

2. 75

3. 15

4. 10

Question ID : 9895808985
Chosen Option : 2

Q.5
9 पहले 15 प्राकृत संख्याओं का औसत कितना होगा?

Ans

1. 6
 2. 8
 3. 7
 4. 9

Question ID : 9895808971
Chosen Option : 2

Q.6
0 100 मीटर लंबी ट्रेन 60 km/hr की गति से चल रही है। इसके समान्तर पथ पर खड़ी 150 मीटर लंबी एक दूसरी ट्रेन को पार करने में कितने सेकंड लगेंगे?

Ans

1. 15
 2. 16
 3. 18
 4. 12.5

Question ID : 9895808986
Chosen Option : 1

Q.6
1 दो संख्याएँ 2 : 3 के अनुपात में हैं। उनके महत्तम समापवर्तक और लघुत्तम समापवर्त्य का गुणनफल 150 है। संख्याओं का योग कितना होगा?

Ans

1. 25
 2. 35
 3. 20
 4. 30

Question ID : 9895808968
Chosen Option : 1

Q.6
2 यशवंत n मिनट में m शब्द और पवन q मिनट में p शब्द टाइप करता है। यशवंत की टाइपिंग और पवन की टाइपिंग दर का अनुपात क्या होगा?

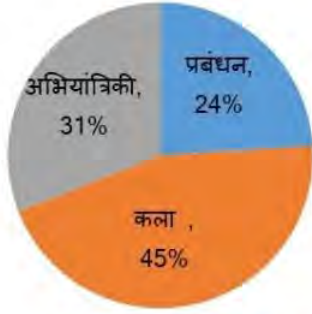
Ans

1. mq/pn
 2. m/n
 3. mp/qn
 4. mn/pq

Question ID : 9895808980

Chosen Option : 4

Q.6 निर्देश: नीचे दिए गए प्रश्नों के उत्तर देने के लिए निम्नलिखित पाई-चार्ट का ध्यानपूर्वक अध्ययन करें।
 कुल छात्रों की संख्या = 8000
 एक विश्वविद्यालय के विभिन्न शाखाओं में छात्रों का प्रतिशत बंटन:



कला तथा प्रबंधन पढ़ने वाले विद्यार्थियों के बीच कितना अंतर है?

Ans

1. 1280
 2. 1680
 3. 2480
 4. 1580

Question ID : 9895808992

Chosen Option : 2

Q.6 4 7.5 m और 25 mm का अनुपात क्या होगा?

Ans

1. 30 : 1
 2. 3 : 1
 3. 300 : 1
 4. 3000 : 1

Question ID : 9895808978

Chosen Option : 2

Q.6 5 एक हैंडी-कैम रिकॉर्डर ₹ 44,000 में 10% लाभ पर बेचा गया है। इसे ₹ 42,000 में बेचा जानेपर क्या लाभ होता?

Ans

1. 6%
 2. 7%
 3. 13%
 4. 5%

Question ID : 9895808977

Chosen Option : 4

Q.6 यदि साधारण ब्याज के अंतर्गत ₹ 3000 की राशि दो वर्षों में ₹ 3600 हो जाती है। ब्याज का दर क्या है?

- Ans
- 1. 5% प्रतिवर्ष
 - 2. 15% प्रतिवर्ष
 - 3. 20% प्रतिवर्ष
 - 4. 10% प्रतिवर्ष

Question ID : 9895808981
Chosen Option : 4

Q.6 निम्नलिखित प्रश्न में प्रश्नवाचक चिन्ह (?) के स्थान पर लगभग कौन सी संख्या आनी चाहिए?

$$5830 \div 364 \times \sqrt{224} = ?$$

- Ans
- 1. 200
 - 2. 290
 - 3. 240
 - 4. 285

Question ID : 9895808970
Chosen Option : --

Q.6 पाइप A एक टैंक को 5 घंटे में पूरी तरह से भर सकता है। हालांकि, टैंक में छिद्र होने के कारण, टैंक को भरने में 3 घंटे और लगते हैं। पाइप A को बंद होने पर छिद्र द्वारा पूरे भरे टैंक को खाली होने में कितना समय लगगा?

- Ans
- 1. 14 घंटे 40 मिनट
 - 2. 7.5 घंटे
 - 3. 13 घंटे 20 मिनट
 - 4. 12 घंटे 20 मिनट

Question ID : 9895808984
Chosen Option : 3

Q.6 A कार्य को 8 दिनों में पूरा कर सकता है, B, उसी कार्य को 10 दिनों में पूरा कर सकता है और C उस कार्य को 12 दिनों में पूरा कर सकता है। तीनों मिलकर एक साथ कार्य को कितने दिनों में पूरा कर सकते हैं?

- Ans
- 1. $3\frac{7}{37}$
 - 2. $3\frac{9}{27}$
 - 3. $3\frac{9}{37}$
 - 4. $3\frac{5}{37}$

Question ID : 9895808983
Chosen Option : 2

Q.7 $\{[(486)^2 \div (27)^2] \times 15\} \div 12 = ?$

- Ans
- 1. 385
 - 2. 405
 - 3. 365

4. 375

Question ID : 9895808969

Chosen Option : 2

Q.7
1 एक समांतर चतुर्भुज की परिमाप 40 cm है और इसका क्षेत्रफल 60 sq. cm है। समांतर चतुर्भुज की लंबाई और चौड़ाई ज्ञात करें यदि इसकी ऊंचाई 4 cm है।

- Ans 1. 15 cm and 5 cm
 2. 13 cm and 12 cm
 3. 18 cm and 12 cm
 4. 12 cm and 8 cm

Question ID : 9895808987

Chosen Option : 1

Q.7
2 किसी संख्या का 40% जब उसी संख्या से घटाया जाता है तो 108 प्राप्त होते हैं। वह संख्या क्या है?

- Ans 1. 180
 2. 200
 3. 100
 4. 400

Question ID : 9895808975

Chosen Option : 1

Q.7
3 2 cm त्रिज्या के 27 छोटे गोले पिघलाकर एक बड़ा गोला बनाया जाता है। बड़े गोले की त्रिज्या क्या होगी?

- Ans 1. 5 cm
 2. 6 cm
 3. 3 cm
 4. 4 cm

Question ID : 9895808989

Chosen Option : 3

Q.7
4 ₹ 1,00,000 के बिल में 40% की छूट और दो क्रमिक 36% एवं 4% की छूट के बीच क्या अंतर है?

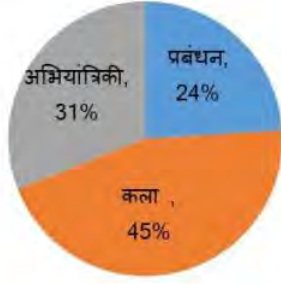
- Ans 1. ₹ 1440
 2. ₹ 2500
 3. ₹ 4000
 4. ₹ 1480

Question ID : 9895808973

Chosen Option : 1

Q.7
5

निर्देश: नीचे दिए गए प्रश्नों के उत्तर देने के लिए निम्नलिखित पाई-चार्ट का ध्यानपूर्वक अध्ययन करें।
कुल छात्रों की संख्या = 8000
एक विश्वविद्यालय के विभिन्न निकायों में छात्रों का प्रतिशत बंटन:



यदि अभियांत्रिकी अनुभाग में लड़कों और लड़कियों के बीच का अनुपात क्रमशः 3 : 2 है, तो अभियांत्रिकी शाखा में लड़कों की संख्या है:

- Ans
- 1. 992
 - 2. 1240
 - 3. 1488
 - 4. 1736

Question ID : 9895808990
Chosen Option : 3

Section : English Language

Q.1 Select the synonym of the given word.

PROCURE

- Ans
- 1. Find
 - 2. Obtain
 - 3. Hinder
 - 4. Search

Question ID : 9895809108
Chosen Option : --

Q.2 Select the most appropriate option to substitute the underlined segment in the given sentence. If there is no need to substitute it, select 'No substitution required'.

It is a story about Mr. and Mrs. Ansari who had look to rent an apartment in the city.

- Ans
- 1. have look to
 - 2. No substitution required
 - 3. is looking for
 - 4. were looking to

Question ID : 9895809098
Chosen Option : --

Q.3 Select the word which means the same as the group of words given.

A doctor who specializes in the study or treatment of heart diseases

Ans

- 1. Cardiologist
- 2. Pediatrician
- 3. Psychologist
- 4. Gynecologist

Question ID : 9895809115

Chosen Option : --

Comprehension:

In the following passage some words have been deleted. Fill in the blanks with the help of the alternatives given. Select the most appropriate option for each number.

India has a large (1) _____ of doctors, clinics and hospitals. The country also (2) _____ considerable experience and knowledge in (3) _____ a public healthcare (4) _____. This is a system of hospitals and healthcare run (5) _____ the government.

SubQuestion No : 4

Q.4 Select the most appropriate option that will fill in the blank number 1.

- Ans
- 1. number
 - 2. force
 - 3. quantity
 - 4. amount

Question ID : 9895809103

Chosen Option : --

Comprehension:

In the following passage some words have been deleted. Fill in the blanks with the help of the alternatives given. Select the most appropriate option for each number.

India has a large (1) _____ of doctors, clinics and hospitals. The country also (2) _____ considerable experience and knowledge in (3) _____ a public healthcare (4) _____. This is a system of hospitals and healthcare run (5) _____ the government.

SubQuestion No : 5

Q.5 Select the most appropriate option that will fill in the blank number 2

- Ans
- 1. is
 - 2. has
 - 3. have
 - 4. had

Question ID : 9895809104

Chosen Option : --

Comprehension:

In the following passage some words have been deleted. Fill in the blanks with the help of the alternatives given. Select the most appropriate option for each number.

India has a large (1) _____ of doctors, clinics and hospitals. The country also (2) _____ considerable experience and knowledge in (3) _____ a public healthcare (4) _____. This is a system of hospitals and healthcare run (5) _____ the government.

SubQuestion No : 6

Q.6 Select the most appropriate option that will fill in the blank number 3.

- Ans
- 1. running
 - 2. putting
 - 3. following
 - 4. solving

Question ID : 9895809105

Chosen Option : --

Comprehension:

In the following passage some words have been deleted. Fill in the blanks with the help of the alternatives given. Select the most appropriate option for each number.

India has a large (1) _____ of doctors, clinics and hospitals. The country also (2) _____ considerable experience and knowledge in (3) _____ a public healthcare (4) _____. This is a system of hospitals and healthcare run (5) _____ the government.

SubQuestion No : 7

Q.7 Select the most appropriate option that will fill in the blank number 4.

- Ans
- 1. company
 - 2. system
 - 3. procedure
 - 4. device

Question ID : 9895809106

Chosen Option : --

Comprehension:

In the following passage some words have been deleted. Fill in the blanks with the help of the alternatives given. Select the most appropriate option for each number.

India has a large (1) _____ of doctors, clinics and hospitals. The country also (2) _____ considerable experience and knowledge in (3) _____ a public healthcare (4) _____. This is a system of hospitals and healthcare run (5) _____ the government.

SubQuestion No : 8

Q.8 Select the most appropriate option that will fill in the blank number 5.

- Ans
- 1. between
 - 2. from
 - 3. by
 - 4. with

Question ID : 9895809107

Chosen Option : --

Q.9 Select the antonym of the given word.

FUTILE

- Ans
- 1. Useful
 - 2. Fruitless
 - 3. Useless
 - 4. Vain

Question ID : 9895809111

Chosen Option : --

Q.1 Identify the segment in the sentence which contains the grammatical error from the given options.

One of the common forms of inequality in India are the caste system.

- Ans
- 1. One of the
 - 2. are the caste system
 - 3. inequality in India
 - 4. common forms of

Question ID : 9895809096

Chosen Option : --

Q.1 Select the meaning of the given idiom.

Give it a shot

- Ans
- 1. give up something
 - 2. try something
 - 3. shoot something

4. plan something

Question ID : 9895809112

Chosen Option : --

Q.1 Select the most appropriate word to fill in the blank.

2

The midday meal programme _____ helped increase the enrolment and attendance of poor children in school.

- Ans
- 1. has
 - 2. was
 - 3. were
 - 4. have

Question ID : 9895809100

Chosen Option : --

Q.1 Select the most appropriate word to fill in the blank.

3

As I am new here, I am not _____ with this area.

- Ans
- 1. welcome
 - 2. popular
 - 3. familiar
 - 4. known

Question ID : 9895809118

Chosen Option : --

Q.1 Select the meaning of the given idiom.

4

Let the grass grow under one's feet

- Ans
- 1. to be careless
 - 2. to accept responsibility
 - 3. to remain idle
 - 4. to engage in useless talk

Question ID : 9895809113

Chosen Option : --

Q.1 Select the wrongly spelt word.

5

- Ans
- 1. Permissible
 - 2. Perseverance
 - 3. Parformence
 - 4. Personnel

Question ID : 9895809117

Chosen Option : --

Q.1

6

Select the antonym of the given word.

ARROGANT

- Ans 1. Modest
 2. Haughty
 3. Disrespectful
 4. Proud

Question ID : 9895809110
Chosen Option : --

Q.1
7 Select the word which means the same as the group of words given.

A person who does not believe in God

- Ans 1. Fanatic
 2. Devotee
 3. Agnostic
 4. Atheist

Question ID : 9895809114
Chosen Option : --

Q.1
8 Select the wrongly spelt word.

- Ans 1. Grandeur
 2. Grammer
 3. Grievance
 4. Grievous

Question ID : 9895809116
Chosen Option : --

Q.1
9 Select the most appropriate word to fill in the blank.

Since he has been living in this area for long, he is _____ to it.

- Ans 1. determined
 2. accustomed
 3. warmed
 4. possessed

Question ID : 9895809119
Chosen Option : --

Q.2
0 Select the synonym of the given word.

PROSPERITY

- Ans 1. Failure
 2. Peace

3. Wealth

4. Poverty

Question ID : 9895809109

Chosen Option : --

Q.2 Identify the segment in the sentence which contains the grammatical error from the given options.

1

Her daughter is sick but it can't take the day off from work.

Ans

1. Her daughter

2. from work

3. the day off

4. it can't

Question ID : 9895809095

Chosen Option : --

Q.2 Select the most appropriate word to fill in the blank.

2

Tired from a long day at work the young lady _____ to give up her seat on a bus to an old man.

Ans

1. has been refusing

2. refused

3. refuse

4. is being refused

Question ID : 9895809101

Chosen Option : --

Q.2 Select the most appropriate option to substitute the underlined segment in the given sentence. If there is no need to substitute it, select 'No substitution required'.

3

There are several laws in India that protect every person's right to be treated equally.

Ans

1. No substitution required

2. each personal right

3. each person right

4. every person right

Question ID : 9895809099

Chosen Option : --

Q.2 Identify the segment in the sentence which contains the grammatical error from the given options.

4

In a democracy country like India, all adults, rich or poor are allowed to vote.

Ans

1. to vote

2. all adults

3. a democracy country

4. are allowed

Question ID : 9895809094
Chosen Option : --

Q.2 Select the most appropriate option to substitute the underlined segment in the given sentence. If there is no need to substitute it, select 'No substitution required'.

The playground was way large then I had imagined and in cleaning it, my back began to ache.

- Ans
- 1. large then I have
 - 2. larger than I had
 - 3. largest than I had
 - 4. No substitution required

Question ID : 9895809097
Chosen Option : --

Section : Hindi Language

Q.1 'कृतघ्न' का विलोम है-

- Ans
- 1. सक्रिय
 - 2. कृतज्ञ
 - 3. कृपालु
 - 4. दीर्घायु

Question ID : 9895807063
Chosen Option : 4

Q.2 दिए गए वाक्य में रेखांकित खंड को प्रतिस्थापित करने के लिए उपयुक्त विकल्प का चयन करें।

वह स्वभाव से घूमने वाला है।

- Ans
- 1. घूमू
 - 2. घूमालू
 - 3. घुमैया
 - 4. घुमक्कड़

Question ID : 9895807052
Chosen Option : 3

Q.3 रिक्त स्थान को भरने के लिए उपयुक्त शब्द का चयन करें।

ईमानदारी श्रेष्ठ _____ है।

- Ans
- 1. गुण
 - 2. क्रिया
 - 3. विसंगति
 - 4. लक्षण

Question ID : 9895807054
Chosen Option : 1

Q.4 'रज्जु' शब्द का पर्यायवाची है-

- Ans
- 1. घोड़ा
 - 2. रस्सी
 - 3. मछली
 - 4. मेढक

Question ID : 9895807065
Chosen Option : 4

Q.5 किये हुए काम के बदले में मिलने वाला धन _____ कहलाता है।

- Ans
- 1. ऋणमुक्त
 - 2. पुरस्कार
 - 3. पारिश्रमिक
 - 4. ब्याज

Question ID : 9895807053
Chosen Option : 3

Q.6 'दस वर्ष से पन्द्रह वर्ष के आयु वर्ग के बालक' के लिए एक शब्द प्रयुक्त होता है-

- Ans
- 1. शिशु
 - 2. किशोर
 - 3. तरुण
 - 4. युवा

Question ID : 9895807070
Chosen Option : 2

Q.7 'हस्त' का पर्यायवाची है-

- Ans
- 1. हाटक
 - 2. कर
 - 3. शची
 - 4. चमू

Question ID : 9895807066
Chosen Option : 3

Q.8 सही वर्तनी वाले शब्द का चयन करें।

- Ans
- 1. जिजीवषा
 - 2. जिजिवीषा
 - 3. जजीवषा
 - 4. जिजीविषा

Question ID : 9895807072
Chosen Option : 1

Q.9 रिक्त स्थान की पूर्ति कीजिए-

अकस्मात् बिजली-सा यह विचार मन में _____।

- Ans
- 1. चमका
 - 2. कौंधा
 - 3. गमका
 - 4. दमका

Question ID : 9895807056
Chosen Option : 2

Q.1 दिए गए वाक्य में रेखांकित खंड को प्रतिस्थापित करने के लिए उपयुक्त विकल्प का चयन करें।

मुझे चमक वाले कपड़े पसंद नहीं हैं।

- Ans
- 1. चमकीले
 - 2. चमकवान
 - 3. चमक
 - 4. चमकमय

Question ID : 9895807051
Chosen Option : 1

Q.1 'मुख्य' का विलोम है-

- Ans
- 1. संक्षिप्त
 - 2. गौण
 - 3. अनिवार्य
 - 4. अवज्ञा

Question ID : 9895807064
Chosen Option : 1

Q.1 'जिसका जन्म श्रेष्ठ कुल में हुआ हो' के लिए एक शब्द प्रयुक्त होता है-

- Ans
- 1. सामंत
 - 2. मलिन
 - 3. श्रेष्ठ
 - 4. कुलीन

Question ID : 9895807069
Chosen Option : 3

Q.1 'ढाक के तीन पात' मुहावरे के सही अर्थ का चयन करें।

- Ans
- 1. सुखद कार्य करना
 - 2. किसी प्रकार का कार्य न करना
 - 3. परिवर्तन न होना

4. सुखद परिवर्तन होना

Question ID : 9895807067
Chosen Option : 3

Q.1
4 रिक्त स्थान को भरने के लिए उपयुक्त शब्द का चयन करें।

बन्दूक एक उपयोगी _____ है।

- Ans
1. औजार
2. अस्त्र
3. शास्त्र
4. घात

Question ID : 9895807055
Chosen Option : 2

Comprehension:

निम्नलिखित गद्यांश के रिक्त स्थानों की पूर्ति गद्यांश के नीचे दिए गए प्रश्नों के अनुसार कीजिए-

आज के युग में इंसान निजी _____ (1) के लिए पर्यावरण के साथ खेल रहा है। वह इसका _____ (2) कर रहा है। जल प्रदूषण, ध्वनि प्रदूषण, पेड़ों की _____ (3), वायु प्रदूषण आदि के द्वारा हम अपने वातावरण को दिन पर दिन _____ (4) करते जा रहे हैं। इसका _____ (5) आने वाली पीढ़ी को भुगतना पड़ेगा।

SubQuestion No : 15

Q.1
5 गद्यांश में संकेतित रिक्त स्थान (1) के लिए उपयुक्त शब्द होगा।

- Ans
1. निहितार्थ
2. पुरुषार्थ
3. स्वार्थ
4. परमार्थ

Question ID : 9895807058
Chosen Option : 3

Comprehension:

निम्नलिखित गद्यांश के रिक्त स्थानों की पूर्ति गद्यांश के नीचे दिए गए प्रश्नों के अनुसार कीजिए-

आज के युग में इंसान निजी _____ (1) के लिए पर्यावरण के साथ खेल रहा है। वह इसका _____ (2) कर रहा है। जल प्रदूषण, ध्वनि प्रदूषण, पेड़ों की _____ (3), वायु प्रदूषण आदि के द्वारा हम अपने वातावरण को दिन पर दिन _____ (4) करते जा रहे हैं। इसका _____ (5) आने वाली पीढ़ी को भुगतना पड़ेगा।

SubQuestion No : 16

Q.1
6 गद्यांश में संकेतित रिक्त स्थान (2) के लिए उपयुक्त शब्द होगा।

- Ans
- 1. अभियोग
 - 2. दुर्योग
 - 3. सदुपयोग
 - 4. दुरुपयोग

Question ID : 9895807059
Chosen Option : 4

Comprehension:

निम्नलिखित गद्यांश के रिक्त स्थानों की पूर्ति गद्यांश के नीचे दिए गए प्रश्नों के अनुसार कीजिए-

आज के युग में इंसान निजी _____ (1) के लिए पर्यावरण के साथ खेल रहा है। वह इसका _____ (2) कर रहा है। जल प्रदूषण, ध्वनि प्रदूषण, पेड़ों की _____ (3), वायु प्रदूषण आदि के द्वारा हम अपने वातावरण को दिन पर दिन _____ (4) करते जा रहे हैं। इसका _____ (5) आने वाली पीढ़ी को भुगतना पड़ेगा।

SubQuestion No : 17

Q.1
7 गद्यांश में संकेतित रिक्त स्थान (3) के लिए उपयुक्त शब्द होगा।

- Ans
- 1. रोपाई
 - 2. लगाई
 - 3. कटाई
 - 4. बुवाई

Question ID : 9895807060
Chosen Option : 2

Comprehension:

निम्नलिखित गद्यांश के रिक्त स्थानों की पूर्ति गद्यांश के नीचे दिए गए प्रश्नों के अनुसार कीजिए-

आज के युग में इंसान निजी _____ (1) के लिए पर्यावरण के साथ खेल रहा है। वह इसका _____ (2) कर रहा है। जल प्रदूषण, ध्वनि प्रदूषण, पेड़ों की _____ (3), वायु प्रदूषण आदि के द्वारा हम अपने वातावरण को दिन पर दिन _____ (4) करते जा रहे हैं। इसका _____ (5) आने वाली पीढ़ी को भुगतना पड़ेगा।

SubQuestion No : 18

Q.1
8 गद्यांश में संकेतित रिक्त स्थान (4) के लिए उपयुक्त शब्द होगा।

- Ans
- 1. मैली
 - 2. स्वच्छ
 - 3. उत्तम
 - 4. खराब

Question ID : 9895807061

Chosen Option : 4

Comprehension:

निम्नलिखित गद्यांश के रिक्त स्थानों की पूर्ति गद्यांश के नीचे दिए गए प्रश्नों के अनुसार कीजिए-

आज के युग में इंसान निजी _____ (1) के लिए पर्यावरण के साथ खेल रहा है। वह इसका _____ (2) कर रहा है। जल प्रदूषण, ध्वनि प्रदूषण, पेड़ों की _____ (3), वायु प्रदूषण आदि के द्वारा हम अपने वातावरण को दिन पर दिन _____ (4) करते जा रहे हैं। इसका _____ (5) आने वाली पीढ़ी को भुगतना पड़ेगा।

SubQuestion No : 19

Q.1
9 गद्यांश में संकेतित रिक्त स्थान (5) के लिए उपयुक्त शब्द होगा।

- Ans
- 1. चिंता
 - 2. लाभ
 - 3. फायदा
 - 4. दुष्प्रभाव

Question ID : 9895807062

Chosen Option : 4

Q.2
0 दिए गए वाक्य का वह भाग ज्ञात करें जिसमें कोई त्रुटि है।

मानव जीवन परमात्मा का सृष्टि है और मर्यादाओं से परिमित है।

- Ans
- 1. मानव जीवन

2. परिमित है।
3. परमात्मा का सृष्टि है
4. और मर्यादाओं से

Question ID : 9895807048
Chosen Option : 3

Q.2
1 दिए गए वाक्य का वह भाग ज्ञात करें जिसमें कोई त्रुटि है।

'मुखिया' शब्द मुख से निकली है और मुख ही सब अंगों में श्रेष्ठ है।

- Ans
1. सब अंगों में श्रेष्ठ है।
2. और मुख ही
3. मुख से निकली है
4. 'मुखिया' शब्द

Question ID : 9895807049
Chosen Option : 4

Q.2
2 'उड़ती चिड़िया पहचानना' मुहावरे के सही अर्थ का चयन करें।

- Ans
1. अंदाजा लगाना
2. उड़ते हुए पक्षी को पहचानना
3. दूसरे के मन की बात जानना
4. चिड़िया की उड़ान मापना

Question ID : 9895807068
Chosen Option : 3

Q.2
3 दिए गए वाक्य का वह भाग ज्ञात करें जिसमें कोई त्रुटि है।

साहित्य की नींव का आधार जीवन है, इसी नींव का साहित्य की दीवार खड़ी होती है।

- Ans
1. साहित्य की दीवार खड़ी होती है।
2. इसी नींव का
3. साहित्य की नींव का
4. आधार जीवन है,

Question ID : 9895807047
Chosen Option : 3

Q.2
4 सही वर्तनी वाले शब्द का चयन करें।

- Ans
1. उज्जवल
2. उजवल
3. उज्ज्वल
4. उज्वल

Question ID : 9895807071

Chosen Option : 3

Q.2
5 दिए गए वाक्य में रेखांकित खंड को प्रतिस्थापित करने के लिए उपयुक्त विकल्प का चयन करें।

यह कुम्हार तो सीधा है, लेकिन इसकी स्त्री बहुत तेज है।

Ans

1. कुम्हारी
2. कुम्हराइन
3. कुम्हारीन
4. कुम्हारनी

Question ID : 9895807050

Chosen Option : 3

KD Job Updates

Constable (GD) in CAPFs, NIA, SSF and Rifleman (GD) in Assam Rifles Examination, 2018

Roll No. :	
Registration No.	
Name :	
Exam Venue :	
Exam Time :	4:00 PM - 5:30 PM
Exam Date :	07/03/2019

Section : General Section

- Q.1 चार लड़के A, B, C, D दक्षिण की ओर मुख किये हुए हैं और चार लड़कियां P, Q, R, S उत्तर की ओर मुख किये हुए दो पंक्तियों में, प्रत्येक में चार कुर्सियों पर बैठे हैं। लड़के, लड़कियाँ एक दूसरे की ओर मुख किये हुए हैं। और
- A, किसी भी छोर पर नहीं बैठा है।
 - B और S हमेशा एक दूसरे के आमने सामने बैठते हैं।
 - R और Q कभी एक दूसरे के पास नहीं हैं।
 - P, किसी एक छोर पर बैठी है और अपने सामने D को नहीं बैठाना चाहती है।

A के सामने कौन बैठा है?

Ans

1. P या Q
2. P
3. R या Q
4. Q

Question ID : 9895808826
Chosen Option : 2

- Q.2 दिए गए विकल्पों में से संबंधित शब्द युग्म का चयन करें।

अल्जाइमर : मस्तिष्क :: _____ : _____

Ans

1. मोतियाबिंद : आंखें
2. खुजली : नाक
3. गुर्दे : जिगर
4. मधुमेह : कान

Question ID : 9895808822
Chosen Option : 1

Q.3 उस विकल्प का चयन करें जो सही रूप में रिक्त स्थान की पूर्ति करते हुए श्रृंखला को पूरा करें।

88, 98, 83, 103, 78, ?

- Ans 1. 108
 2. 107
 3. 115
 4. 110

Question ID : 9895808831
Chosen Option : 1

Q.4 उस विकल्प का चयन करें जो तीसरे पद से उसी तरह संबंधित है जिस प्रकार दूसरा पद पहले पद से संबंधित है।

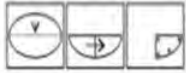
12 : 143 :: 100 : ?

- Ans 1. 9999
 2. 1119
 3. 9789
 4. 1009

Question ID : 9895808833
Chosen Option : 1

Q.5 नीचे प्रश्न आकृति में दर्शाये गए तरीके से एक कागज़ को मोड़ा गया और काटा गया है। इस कागज़ को खोलने पर दी गयी उत्तर आकृतियों में से कौन सी आकृति दिखाई देगी?

प्रश्न आकृति:



Ans

- 1.
- 2.
- 3.

4.



Question ID : 9895808841
Chosen Option : 1

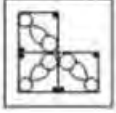
Q.6 एक निश्चित कूट में, CAMP को 16 के रूप में जाता है और TRY को 9 के रूप में कूटबद्ध किया जाता है। उस कोड में PILOT कैसे कूटबद्ध किया जाता है?

- Ans
- ✓ 1. 25
 - ✗ 2. 49
 - ✗ 3. 36
 - ✗ 4. 24

Question ID : 9895808825
Chosen Option : 1

Q.7 निम्नलिखित में से कौन सी उत्तर आकृति दी गई आकृति को पूरा करेगी?

प्रश्न आकृति:



- Ans
- ✗ 1.
 - ✗ 2.
 - ✗ 3.
 - ✓ 4.

Question ID : 9895808838
Chosen Option : 4

Q.8 नीचे दिए गए कथनों के बाद दो निष्कर्ष I और II दिए गए हैं। यह मानते हुए कि कथनों में दी गई जानकारी सत्य है, भले ही वह सर्वज्ञात तथ्यों से भिन्न प्रतीत होती हो और यह निर्णय करें कि कौन सा / से निष्कर्ष तार्किक और निश्चित रूप से कथन में दी गई जानकारी का अनुसरण करता है / करते हैं।

कथन:-

कुछ किताबें, कार्ड हैं।

कुछ कार्ड, सुंदर हैं।

निष्कर्ष:-

- I. कुछ किताबें, सुंदर हैं।
- II. कुछ सुंदर, किताबें हैं।

Ans

1. या तो निष्कर्ष । या ॥ अनुसरण करता है।
2. न तो निष्कर्ष । न ही ॥ अनुसरण करता है।
3. केवल निष्कर्ष । अनुसरण करता है।
4. केवल निष्कर्ष ॥ अनुसरण करता है।

Question ID : 9895808830
Chosen Option : 2

Q.9 उस विकल्प का चयन करें जो सही रूप में रिक्त स्थान की पूर्ति करते हुए श्रृंखला को पूरा करें।

SL, MO, GR, ?

Ans

1. HF
2. CK
3. AU
4. AV

Question ID : 9895808818
Chosen Option : 3

Q.1 वह विकल्प का चयन करें जो दी गई आकृति श्रृंखला को पूरा करता है

PROBLEM FIGURES



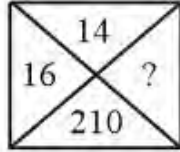
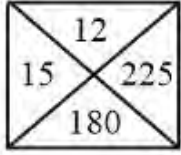
Ans

- 1.
- 2.
- 3.
- 4.

Question ID : 9895808837
Chosen Option : 1

Q.1
1

दिए गए विकल्पों में से लुप्त संख्या ज्ञात करें।



- Ans
- 1. 210
 - 2. 250
 - 3. 230
 - 4. 240

Question ID : 9895808835
Chosen Option : 2

Q.1
2 P, Q, R, S, T, U और V एक वृत्ताकार मेज के चारों ओर बैठे हैं।

S, R या T का पड़ोसी नहीं है।

P, Q और R का पड़ोसी है।

V, जो कि S के बाएं से दूसरा है, T और U का पड़ोसी है।

निम्न में से कौन सा सत्य है ?

- Ans
- 1. ज्ञात नहीं किया जा सकता
 - 2. Q, R और T के मध्य में है
 - 3. R, P और T के मध्य में है
 - 4. S, U के निकटवर्ती बायीं ओर है

Question ID : 9895808827
Chosen Option : 1

Q.1
3 दिए गए विकल्पों में से संबंधित शब्द युग्म का चयन करें।

yrteop : poetry :: _____ : _____

- Ans
- 1. ethory : htheory
 - 2. iroeth : theori
 - 3. erhtyo : hetroy
 - 4. yroeht : theory

Q.1 एक निश्चित कूट में, NO को MO-NP के रूप में कूटबद्ध किया जाता है। उस कोड में PRO कैसे कूटबद्ध किया जाता है?

- Ans
- 1. OS-QR-HT
 - 2. OQ-QR-NT
 - 3. OQ-QS-NP
 - 4. OQ-QS-PN

Q.1 उस विकल्प आकृति का चयन करें, जिसमें प्रश्न आकृति छिपी हुई/अंतर्निहित है।

प्रश्न आकृति:



- Ans
- 1.
 - 2.
 - 3.
 - 4.

Q.1 नीचे दिए गए कथनों के बाद दो निष्कर्ष I और II दिए गए हैं। यह मानते हुए कि कथनों में दी गई जानकारी सत्य है, भले ही वह सर्वज्ञात तथ्यों से भिन्न प्रतीत होती हो और यह निर्णय करें कि कौन सा/से निष्कर्ष तार्किक और निश्चित रूप से कथनों में दी गई जानकारी का अनुसरण करता है/करते हैं।

कथन:

कुछ गुलाब, लाल हैं।

सभी लाल, घास हैं।

कुछ घास, हरी हैं।

निष्कर्ष:

I. कुछ गुलाब, घास हैं।

II. कुछ हरे, लाल हैं।

- Ans
- 1. केवल निष्कर्ष I सत्य है
 - 2. न निष्कर्ष I न II सत्य है

3. केवल निष्कर्ष ॥ सत्य है

4. दोनों निष्कर्ष । और ॥ सत्य है

Question ID : 9895808829

Chosen Option : 4

Q.1 सुमन एवं राजेश का एक पंक्ति में स्थान क्रमशः बाएँ से 12वाँ एवं दाएँ से 8वाँ है। यदि वे अपना स्थान आपस में बदल लेते हैं तो राजेश का स्थान दाएँ से 17वाँ हो जाता है। जात कीजिए कि सुमन का बाएँ से कौन-सा स्थान होगा तथा समूह में कुल कितने व्यक्ति हैं?

Ans 1. 21, 28

2. 21, 27

3. 20, 28

4. 25, 26

Question ID : 9895808828

Chosen Option : 2

Q.1 यदि 'P' का अर्थ '-', 'Q' का अर्थ '+', 'R' का अर्थ '+', और 'S' का अर्थ 'x', है, तो:

525 Q 25 R 42 S 4 = ?

Ans 1. 178

2. 187

3. 198

4. 189

Question ID : 9895808836

Chosen Option : 4

Q.1 चार अक्षर समूह दिए गए हैं, जिनमें से तीन किसी तरह से समान हैं, जबकि एक अलग है। असंगत अक्षर समूह का चयन करें।

Ans 1. ROL

2. GDA

3. FCZ

4. WYA

Question ID : 9895808819

Chosen Option : 4

Q.2 दिए गए विकल्पों में से संबंधित शब्द युग्म का चयन करें।

पुस्तकें : लेखन सामग्री :: _____ : _____

Ans 1. कुर्सियां : फर्नीचर

2. औषधि : नर्स

✗ 3. सब्जी : किराना

✗ 4. मछली बाज़ार : कपड़ा

Question ID : 9895808821
Chosen Option : 1

Q.2 उस विकल्प का चयन करें जो सही रूप में रिक्त स्थान की पूर्ति करते हुए श्रृंखला को पूरा करें।

12, 12, 13, 26, 28, 84, ?

Ans ✗ 1. 84

✓ 2. 87

✗ 3. 95

✗ 4. 93

Question ID : 9895808832
Chosen Option : 2

Q.2 जब दर्पण को AB रेखा पर रखा जाता है तब उत्तर आकृति में से कौन-सी आकृति, दी गई आकृति की दर्पण छवि है?

Question Figures:



Ans



Question ID : 9895808840
Chosen Option : 3

Q.2 चार विकल्प दिए गए हैं, जिनमें से तीन किसी तरह से समान हैं, जबकि एक अलग है। असंगत का चयन करें।

Ans ✗ 1. 165

✗ 2. 66

✓ 3. 177

✗ 4. 154

Question ID : 9895808834
Chosen Option : 4

Q.2 चार शब्द दिए गए हैं, जिनमें से तीन किसी तरह से समान हैं, जबकि एक अलग है। असंगत शब्द का चयन करें।

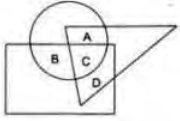
4

- Ans
- 1. शब्दकोश
 - 2. विश्वकोश
 - 3. लेख
 - 4. गणक (कैलकुलेटर)

Question ID : 9895808820

Chosen Option : 4

- Q.2
5 निम्नलिखित आरेख में, त्रिकोण डॉक्टरों का प्रतिनिधित्व करता है, वृत्त खिलाड़ियों का प्रतिनिधित्व करता है और आयत गायकों का प्रतिनिधित्व करता है। कौन सा क्षेत्र उन डॉक्टरों का प्रतिनिधित्व करता है जो गायक हैं किन्तु खिलाड़ी नहीं हैं?



- Ans
- 1. D
 - 2. C
 - 3. B
 - 4. A

Question ID : 9895808842

Chosen Option : 1

- Q.2
6 खादर मिट्टी किस प्रकार की मिट्टी है?

- Ans
- 1. लेटराइट मिट्टी
 - 2. काली मिट्टी
 - 3. लाल मिट्टी
 - 4. जलोढ़ मिट्टी

Question ID : 9895808585

Chosen Option : 2

- Q.2
7 इनमें से कौन-सी एक ऐसी गतिविधि नहीं है, जिसे प्राथमिक क्षेत्र के रूप में वर्गीकृत किया गया है?

- Ans
- 1. वानिकी
 - 2. कृषि
 - 3. डेरी
 - 4. बैंकिंग

Question ID : 9895808575

Chosen Option : 2

- Q.2
8 हिन्दुस्तानी शास्त्रीय संगीत का सबसे प्राचीन रूप कौन-सा है?

- Ans
- 1. ग़ज़ल
 - 2. सुफ़ियाना कलाम
 - 3. धुपद
 - 4. कटवाली

Question ID : 9895808566
Chosen Option : 1

Q.2
9 'फ़्लाइंग सिख ऑफ़ इंडिया' के रूप में कौन जाने जाते हैं?

- Ans
- 1. महेन्द्र अहलूवालिया
 - 2. कुलविंदर सिंह
 - 3. गुरिंदर चड्ढा
 - 4. मिल्खा सिंह

Question ID : 9895808568
Chosen Option : 4

Q.3
0 इनमें से कौन-सा एक कृत्रिम पारिस्थितिकी तंत्र नहीं है?

- Ans
- 1. जंगल
 - 2. मछलीघर
 - 3. फसल क्षेत्र
 - 4. बगीचा

Question ID : 9895808581
Chosen Option : 2

Q.3
1 निम्नलिखित में से कौन-से शब्द भारत के संविधान के प्रस्तावना में शामिल नहीं हैं?

- Ans
- 1. धर्म
 - 2. समानता
 - 3. समाजवादी
 - 4. धर्म निरपेक्ष

Question ID : 9895808577
Chosen Option : 3

Q.3
2 उत्तर रेलवे की पहली भारतीय महिला इंजन चालक कौन थी?

- Ans
- 1. शैल मिश्रा
 - 2. लक्ष्मी लाकड़ा

3. तूलिका रानी

4. सुरेखा यादव

Question ID : 9895808570

Chosen Option : 4

Q.3
3 चाय और कॉफी उगाने के लिए कौन-सी मिट्टी बहुत उपयोगी है?

Ans 1. लाल मिट्टी

2. लेटराइट मिट्टी

3. काली मिट्टी

4. शुष्क मिट्टी

Question ID : 9895808584

Chosen Option : 2

Q.3
4 चेराव किस राज्य की एक पुरानी पारंपरिक नृत्य शैली है?

Ans 1. त्रिपुरा

2. मिज़ोरम

3. मणिपुर

4. नागालैंड

Question ID : 9895808567

Chosen Option : 1

Q.3
5 कौन-सा अम्ल-आधारित संकेतक घर पर तैयार किया जा सकता है?

Ans 1. फिनोलफथेलिन

2. लिटमस

3. मिथाइल ऑरेंज

4. चुकंदर का रस

Question ID : 9895808580

Chosen Option : 4

Q.3
6 जायद मौसम के दौरान किस फसल का उत्पादन होता है?

Ans 1. तरबूज

2. गेहूं

3. मक्का

4. बाजरा

Question ID : 9895808586
Chosen Option : 2

Q.3
7 रक्त का कौन-सा घटक रक्त के थक्के बनाने में मदद करता है?

- Ans
- 1. धमनियां
 - 2. लसीका
 - 3. प्लेटलेट
 - 4. शिराएं

Question ID : 9895808582
Chosen Option : 3

Q.3
8 बैंक _____ पर दी जाने वाली ब्याज दर तुलना में ऋण पर उच्च ब्याज दर प्रभारित करते हैं।

- Ans
- 1. जमाराशियों
 - 2. संपाशिवक
 - 3. प्रारक्षित निधि
 - 4. अस्तियों

Question ID : 9895808574
Chosen Option : 2

Q.3
9 1905 में भारत माता की प्रख्यात छवि को किसने बनायीं थी ?

- Ans
- 1. तारिणीचरण चट्टोपाध्याय
 - 2. रवि वर्मा
 - 3. अबनिंद्रनाथ टैगोर
 - 4. नातेसा शास्त्री

Question ID : 9895808588
Chosen Option : 3

Q.4
0 जनता को आंतरिक के साथ-साथ बाह्य मामलों पर निर्णय करने का सर्वोच्च अधिकार है; कोई भी बाहरी शक्ति भारत सरकार को आदेश नहीं दे सकती है; यह भारत को बनाता है।

- Ans
- 1. भाई-चारा
 - 2. सार्वभौम
 - 3. धर्म निरपेक्ष
 - 4. समाजवादी

Question ID : 9895808578
Chosen Option : 3

Q.4
1 निम्नलिखित में से कौन वनस्पति जगत के उभयचर कहलाते हैं?

- Ans
- 1. आवृतबीजी
 - 2. थैलोफाइट
 - 3. जिम्नोस्पर्म
 - 4. ब्रायोफाइट

Question ID : 9895808583
Chosen Option : 1

Q.4
2 केरल में व्यापारिक स्टेशन शुरू करने के लिए निम्नलिखित में से कौन पहले थे?

- Ans
- 1. अंग्रेज व्यापारी
 - 2. पुर्तगाली व्यापारी
 - 3. डच व्यापारी
 - 4. फ्रांसीसी व्यापारी

Question ID : 9895808587
Chosen Option : 2

Q.4
3 स्पिनिंग जेनी की खोज किसने की थी?

- Ans
- 1. हेनरी ल्यूक
 - 2. विलियम हंटिंगटन
 - 3. टी.ई. निकोलसन
 - 4. जेम्स हार्गीव्स

Question ID : 9895808589
Chosen Option : 4

Q.4
4 सत्यजीत रे निम्न में से किससे जुड़े थे?

- Ans
- 1. शास्त्रीय संगीत
 - 2. व्यावसायिक कला
 - 3. शास्त्रीय नृत्य
 - 4. फिल्म निर्देशन

Question ID : 9895808571
Chosen Option : 1

Q.4
5 भारतीय क्रिकेट कंट्रोल बोर्ड (बीसीसीआई) का गठन कब हुआ?

- Ans
- 1. दिसंबर 1928
 - 2. नवंबर 1930
 - 3. दिसंबर 1931
 - 4. नवंबर 1929

Question ID : 9895808569

Chosen Option : 3

Q.4 6 भारत किस प्रकार का परिसंघ है जिस में कुछ राज्यों के पास अन्य राज्यों की तुलना में अधिक शक्तियाँ होती हैं?

- Ans
- 1. पदानुक्रमित
 - 2. एक साथ आना
 - 3. समान
 - 4. एकजुट रखना

Question ID : 9895808576

Chosen Option : 4

Q.4 7 केसर सागा है :

- Ans
- 1. तमिल महाकाव्य
 - 2. कोंकणी महाकाव्य
 - 3. बांग्ला महाकाव्य
 - 4. तिब्बती महाकाव्य

Question ID : 9895808572

Chosen Option : 1

Q.4 8 कौन-सा स्मारक बादशाह औरंगज़ेब के बेटे आजम शाह द्वारा बनवाया गया था?

- Ans
- 1. नीला गुंबद
 - 2. बुलंद दरवाज़ा
 - 3. बीबी का मक़बरा
 - 4. हवा महल

Question ID : 9895808565

Chosen Option : 1

Q.4 9 चुंबकीय क्षेत्र रेखाएं खींचने के लिए किस उपकरण का प्रयोग किया जाता है?

- Ans
- 1. एमीटर
 - 2. विद्युतमापी

3. वाल्टमीटर

4. कंपास

Question ID : 9895808579
Chosen Option : 2

Q.5 प्रधानमंत्री नरेंद्र मोदी ने सितंबर 2018 में _____ राज्य में आयुष्मान भारत स्वास्थ्य बीमा, दुनिया की सबसे बड़ी सरकारी वित्त पोषित स्वास्थ्य सेवा योजना शुरू की।

Ans 1. बिहार

2. झारखंड

3. छत्तीसगढ़

4. उत्तराखंड

Question ID : 9895808573
Chosen Option : 3

Q.5 1 यदि ?% of $\frac{2}{3} = \frac{1}{2}$ है, तो '?' का मान _____ है।

Ans 1. 0.75

2. 7.5

3. 75

4. 57

Question ID : 9895809000
Chosen Option : 1

Q.5 2 निम्नलिखित पद का मान क्या है?

$$(47 \times 588) \div (28 \times 120) = ?$$

Ans 1. 8.225

2. 8.285

3. 6.284

4. 7.625

Question ID : 9895808994
Chosen Option : 2

Q.5 3 एक निश्चित राशि पर 3 प्रतिशत की ब्याज दर से 2 वर्ष के लिए चक्रवृद्धि ब्याज ₹ 101.50 होता है। उसी राशि पर समान दर और समान अवधि के लिए साधारण ब्याज कितना होगा?

Ans 1. ₹ 90

✓ 2. ₹ 100

✗ 3. ₹ 98.21

✗ 4. ₹ 95.5

Question ID : 9895809007

Chosen Option : 3

Q.5
4 एक लड़की स्कूटी से 300 मीटर की दूरी तय करने में 30 सेकंड लेती हैं। उसकी चाल km/hr में कितनी होगी?

Ans

✗ 1. 24 km/hr

✗ 2. 26 km/hr

✗ 3. 34 km/hr

✓ 4. 36 km/hr

Question ID : 9895809010

Chosen Option : 4

Q.5
5 एक आदमी किसी वस्तु को उसके मूल्य के $\frac{3}{4}$ भाग पर खरीदता है और उसे 30% अधिक मूल्य पर बेच देता है तो उसको कितना प्रतिशत लाभ हुआ?

Ans

✗ 1. 75%

✗ 2. 50%

✗ 3. $65\frac{1}{3}\%$

✓ 4. $73\frac{1}{3}\%$

Question ID : 9895809001

Chosen Option : 2

Q.5
6 928, 1247 और 1653 को पूर्णतः विभाजित करनेवाली महत्तम भाजक संख्या _____ है।

Ans

✗ 1. 19

✓ 2. 29

✗ 3. 33

✗ 4. 23

Question ID : 9895808993

Chosen Option : 1

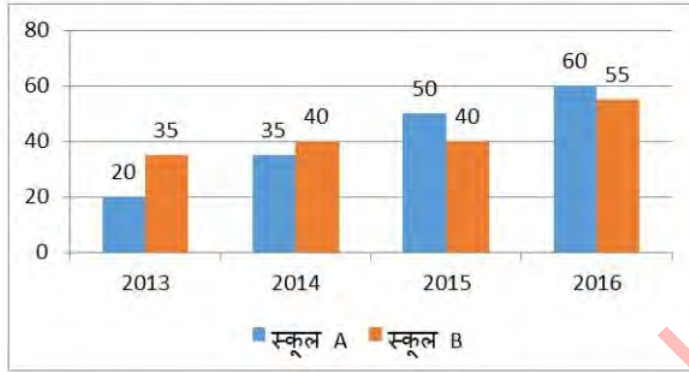
Q.5
7 तीन संख्याओं का योग 65 है। यदि पहली और दूसरी संख्या का अनुपात 3 : 4 है, और दूसरी व तीसरी संख्या का अनुपात 2 : 3 है, तो दूसरी संख्या _____ है।

Ans

- ✓ 1. 20
✗ 2. 15
✗ 3. 25
✗ 4. 30

Question ID : 9895809004
Chosen Option : 4

Q.5 निर्देश: निचे दिए गए ग्राफ का अध्ययन करें और दिए गए प्रश्नों के उत्तर दें।
8 (निश्चित वर्षों में दो अलग-अलग विद्यालयों में दाखिल हुए विद्यार्थियों की संख्या।)



किस वर्ष में दोनों विद्यालयों को मिलाकर दाखिल हुए विद्यार्थियों की कुल संख्या दूसरी सबसे कम थी?

Ans

- ✓ 1. 2014
✗ 2. 2015
✗ 3. 2013
✗ 4. 2016

Question ID : 9895809015
Chosen Option : 3

Q.5 12 m × 8 m की दीवार में 3 m × 1.5 m का दरवाजा और 1.5 m × 1.5 m की दो खिड़कियां हैं। दीवार के उस
9 भाग का क्षेत्रफल ज्ञात करें जिस पर रंग किया जा सकता है।

Ans

- ✗ 1. 65 sq. cm
✗ 2. 96 sq. cm
✓ 3. 87 sq. cm
✗ 4. 80 sq. cm

Question ID : 9895809012
Chosen Option : 2

Q.6

0 A और B एक कार्य को 4 दिन में तथा C और D इसे 3 दिनों में कर सकते हैं। A, B, C और D एक साथ इसे कितने दिनों में करेंगे?

Ans

✓ 1. $\frac{12}{7}$ दिन

✗ 2. $\frac{2}{3}$ दिन

✗ 3. $\frac{7}{12}$ दिन

✗ 4. $\frac{3}{2}$ दिन

Question ID : 9895809009

Chosen Option : 1

Q.6 225 m लंबाई की एक ट्रेन एक खड़ी ट्रेन में बैठे व्यक्ति को 12.5 s में पार करती है। ट्रेन की चाल कितनी है?

Ans

✗ 1. 24 m/s

✓ 2. 18 m/s

✗ 3. 12 m/s

✗ 4. 14 m/s

Question ID : 9895809011

Chosen Option : 2

Q.6 यदि 5 लड़कियाँ एक पोशाक की कढ़ाई 9 दिन में कर सकती हैं तो 3 लड़कियाँ वही काम कितने दिनों में करेंगी?

Ans

✓ 1. 15 दिन

✗ 2. 14 दिन

✗ 3. 10 दिन

✗ 4. 20 दिन

Question ID : 9895809008

Chosen Option : 1

Q.6 मोहित एक अलमारी 11% लाभ पर रोहित को बेचता है और रोहित इसे 20% के लाभ पर नेहा को बेचता है। अगर नेहा इसके लिए ₹ 6,200 देती है तो मोहित के लिए अलमारी का लागत मूल्य कितना है?

Ans

✗ 1. ₹ 4244.65

✗ 2. ₹ 4634.65

✓ 3. ₹ 4654.65

4. ₹ 4184.65

Question ID : 9895809002

Chosen Option : 3

Q.6 22 अवलोकनों का माध्य 35 है। बाद में यह पता चला कि 16 और 24 को 31 और 42 के रूप में गलत समझा गया है। सही माध्य क्या है?

- Ans
- 1. 32
 - 2. 34
 - 3. 33.5
 - 4. 31.5

Question ID : 9895808999

Chosen Option : 4

Q.6 8 व्यक्तियों के समूह में जब 170 cm वाले एक व्यक्ति की जगह एक नया व्यक्ति लेता है तो समूह की औसत लम्बाई 2.5 cm कम हो जाती है। नए व्यक्ति की लम्बाई क्या है?

- Ans
- 1. 165 cm
 - 2. 155 cm
 - 3. 150 cm
 - 4. 160 cm

Question ID : 9895808997

Chosen Option : 2

Q.6 निर्देश: निम्नलिखित ग्राफ का अध्ययन करें और दिए गए प्रश्नों के उत्तर दें।
(दिए गए वर्षों वर्षों में दो अलग-अलग विद्यालयों में दाखिल हुए विद्यार्थियों की संख्या।)



वर्ष 2013 में स्कूल A में दाखिल हुए विद्यार्थियों की संख्या और वर्ष 2016 में दोनों स्कूल में दाखिल हुए विद्यार्थियों की कुल संख्या के बीच का अनुपात क्या था?

- Ans
- 1. 3 : 17
 - 2. 4 : 19

✓ 3. 4 : 23

✗ 4. 21 : 5

Question ID : 9895809017

Chosen Option : 4

Q.6
7 42, 48, 65, 35, 55, 49 वर्ष आयु के 6 पुरुषों की आयु का औसत _____ है।

Ans

✓ 1. 49

✗ 2. 47

✗ 3. 48

✗ 4. 46

Question ID : 9895808996

Chosen Option : 1

Q.6
8 निम्नलिखित पद का मान ज्ञात कीजिए।

$$51 \div 3 \times 15 = ?$$

Ans

✓ 1. 255

✗ 2. 100

✗ 3. 130

✗ 4. 140

Question ID : 9895808995

Chosen Option : 1

Q.6
9 A और B का अनुपात 4 : 5 और B और C का अनुपात 2 : 3 है। यदि A = 240 है, तो C = _____ होगा।

Ans

✗ 1. 420

✗ 2. 150

✓ 3. 450

✗ 4. 300

Question ID : 9895809003

Chosen Option : 3

Q.7
0 दो संख्याओं का अनुपात 7 : 9 है। इन प्रत्येक संख्या में से 20 को कम करने पर, नया अनुपात 3 : 5 हो जाता है।
आरंभिक संख्याओं के बीच का अंतर कितना है?

Ans

1. 15

2. 10

3. 14

4. 12

Question ID : 9895809005

Chosen Option : 2

Q.7
1 एक आयताकार खेत में एक लंबी तरफ, एक छोटी तरफ और एक विकर्ण पर बाड़ लगाना है। अगर बाड़ की लागत ₹ 10 प्रति मीटर है, खेत का क्षेत्रफल 4800 m^2 है और खेत छोटी तरफ 60 m लंबा है, तो बाड़ की संपूर्ण लागत क्या है?

Ans 1. ₹ 2400

2. ₹ 2100

3. ₹ 3600

4. ₹ 1800

Question ID : 9895809013

Chosen Option : 1

Q.7
2 एक समकोण त्रिभुज की परिमाप 30 cm है और इसका कर्ण 13 cm है। त्रिभुज का क्षेत्रफल _____ है।

Ans 1. 30 sq. cm

2. 26 sq. cm

3. 60 sq. cm

4. 45 sq. cm

Question ID : 9895809014

Chosen Option : 2

Q.7
3 एक दुकानदार, 20% की आरंभिक छूट देने के बाद रेडियो पर 12% की अतिरिक्त छूट देता है। यदि रेडियो का अंतिम विक्रय मूल्य ₹ 704 है तो अंकित मूल्य क्या है?

Ans 1. ₹ 980

2. ₹ 800

3. ₹ 1200

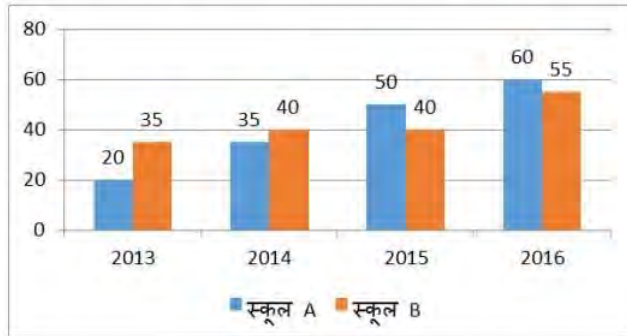
4. ₹ 1000

Question ID : 9895808998

Chosen Option : 3

Q.7
4

निर्देश: निम्नलिखित ग्राफ का अध्ययन करें और दिए गए प्रश्नों के उत्तर दें।
(निश्चित वर्षों में दो अलग-अलग विद्यालयों में दाखिल हुए विद्यार्थियों की संख्या।)



वर्ष 2015 में दाखिल हुए विद्यार्थियों की कुल संख्या और वर्ष 2016 में दाखिल हुए विद्यार्थियों की कुल संख्या के बीच अंतर कितना था?

Ans

- 1. 25
- 2. 22
- 3. 15
- 4. 28

Question ID : 9895809016

Chosen Option : 1

Q.7 भवन ने साधारण ब्याज पर दो समान राशियों का निवेश किया था। उसने एक राशि 15% वार्षिक दर और दूसरी 20% वार्षिक दर से निवेश की थी। वर्ष के अंत में कुल अर्जित ब्याज ₹ 1400 मिला। निवेश की गई कुल राशि (₹ में) कितनी थी?

Ans

- 1. 10000
- 2. 8000
- 3. 5000
- 4. 4000

Question ID : 9895809006

Chosen Option : 1

Section : English Language

Q.1 Select the synonym of the given word.

PASSION

Ans

- 1. Desire
- 2. Passivity
- 3. Indifference
- 4. Hatred

Question ID : 9895809135

Chosen Option : --

Q.2 Select the meaning of the given idiom.

Fight shy of

- Ans
- 1. To quarrel bitterly
 - 2. To avoid encountering
 - 3. To be frightened
 - 4. To be in an angry state

Question ID : 9895809138

Chosen Option : --

Q.3 Select the synonym of the given word.

RELEVANT

- Ans
- 1. Unrelated
 - 2. Realistic
 - 3. Applicable
 - 4. Natural

Question ID : 9895809134

Chosen Option : --

Q.4 Select the most appropriate word to fill in the blank.

The unfortunate boy was _____ by the racing car.

- Ans
- 1. knocked down
 - 2. knocked at
 - 3. knocked about
 - 4. knocked back

Question ID : 9895809144

Chosen Option : --

Q.5 Select the wrongly spelt word.

- Ans
- 1. Manipulate
 - 2. Medieval
 - 3. Maintainance
 - 4. Marriage

Question ID : 9895809142

Comprehension:

In the following passage some words have been deleted. Fill in the blanks with the help of the alternatives given. Select the most appropriate option for each number.

Media is the plural of the word 'medium'. (1) _____ describes the various ways (2) _____ which we communicate in society. Because media refers (3) _____ all means of communication, everything (4) _____ from a phone call to the evening news on TV can be (5) _____ media.

SubQuestion No : 6

Q.6 Select the most appropriate option that will fill in the blank number 1.

- Ans 1. They
 2. Its
 3. It
 4. These

Question ID : 9895809129
 Chosen Option : --

Comprehension:

In the following passage some words have been deleted. Fill in the blanks with the help of the alternatives given. Select the most appropriate option for each number.

Media is the plural of the word 'medium'. (1) _____ describes the various ways (2) _____ which we communicate in society. Because media refers (3) _____ all means of communication, everything (4) _____ from a phone call to the evening news on TV can be (5) _____ media.

SubQuestion No : 7

Q.7 Select the most appropriate option that will fill in the blank number 2.

- Ans 1. for
 2. from
 3. through
 4. with

Question ID : 9895809130
 Chosen Option : --

Comprehension:

In the following passage some words have been deleted. Fill in the blanks with the help of the alternatives given. Select the most appropriate option for each number.

Media is the plural of the word 'medium'. (1) _____ describes the various ways (2) _____ which we communicate in society. Because media refers (3) _____ all means of communication, everything (4) _____ from a phone call to the evening news on TV can be (5) _____ media.

SubQuestion No : 8

Q.8 Select the most appropriate option that will fill in the blank number 3.

- Ans**
- 1. to
 - 2. about
 - 3. for
 - 4. in

Question ID : 9895809131
Chosen Option : --

Comprehension:

In the following passage some words have been deleted. Fill in the blanks with the help of the alternatives given. Select the most appropriate option for each number.

Media is the plural of the word 'medium'. (1) _____ describes the various ways (2) _____ which we communicate in society. Because media refers (3) _____ all means of communication, everything (4) _____ from a phone call to the evening news on TV can be (5) _____ media.

SubQuestion No : 9

Q.9 Select the most appropriate option that will fill in the blank number 4.

- Ans**
- 1. ranging
 - 2. is ranging
 - 3. ranged
 - 4. ranges

Question ID : 9895809132
Chosen Option : --

Comprehension:

In the following passage some words have been deleted. Fill in the blanks with the help of the alternatives given. Select the most appropriate option for each number.

Media is the plural of the word 'medium'. (1) _____ describes the various ways (2) _____ which we communicate in society. Because media refers (3) _____ all means of communication, everything (4) _____ from a phone call to the evening news on TV can be (5) _____ media.

SubQuestion No : 10

Q.1
0 Select the most appropriate option that will fill in the blank number 5.

- Ans
- 1. certified
 - 2. chosen
 - 3. opted
 - 4. called

Question ID : 9895809133
Chosen Option : --

Q.1
1 Select the most appropriate option to substitute the underlined segment in the given sentence. If there is no need to substitute it, select No substitution required.

Many families are so poor to bear the cost of educating their children.

- Ans
- 1. more poor for
 - 2. No substitution required
 - 3. too much poor to
 - 4. too poor to

Question ID : 9895809125
Chosen Option : --

Q.1
2 Select the most appropriate word to fill in the blank.

Different strategies have been used _____ awareness about education.

- Ans
- 1. spread
 - 2. to spread
 - 3. to spreading
 - 4. spreading

Question ID : 9895809126
Chosen Option : --

Q.1 3 Select the most appropriate option to substitute the underlined segment in the given sentence. If there is no need to substitute it, select No substitution required.

In the nineteenth century, many new ideas about education and learning were being emerged.

- Ans
- 1. was emerging
 - 2. emerged
 - 3. is emerging
 - 4. No substitution required

Question ID : 9895809124
Chosen Option : --

Q.1 4 Identify the segment in the sentence which contains the grammatical error from the given options.

The political party that have the majority is called the ruling party.

- Ans
- 1. ruling party
 - 2. the majority
 - 3. that have
 - 4. The political

Question ID : 9895809120
Chosen Option : --

Q.1 5 Select the word which means the same as the group of words given.

One who is indifferent to pleasure or pain

- Ans
- 1. Stubborn
 - 2. Stoic
 - 3. Garrulous
 - 4. Heroic

Question ID : 9895809141
Chosen Option : --

Q.1 6 Select the antonym of the given word.

APPARENT

- Ans
- 1. Appealing
 - 2. Hidden
 - 3. Obvious
 - 4. Likely

Question ID : 9895809137

Q.1
7 Select the word which means the same as the group of words given.

Happening or being done at exactly the same time

- Ans
- 1. Superfluous
 - 2. Simultaneous
 - 3. Obsolete
 - 4. Immediate

Question ID : 9895809140
Chosen Option : --

Q.1
8 Select the wrongly spelt word.

- Ans
- 1. Conscience
 - 2. Embarass
 - 3. Rhythm
 - 4. Playwright

Question ID : 9895809143
Chosen Option : --

Q.1
9 Select the most appropriate word to fill in the blank.

In the 1980s, many women _____ the country spoke out against dowry deaths.

- Ans
- 1. through
 - 2. across
 - 3. over
 - 4. above

Question ID : 9895809127
Chosen Option : --

Q.2
0 Identify the segment in the sentence which contains the grammatical error from the given options.

In fact, what we common termed as housework actually involves many different tasks.

- Ans
- 1. In fact
 - 2. involves
 - 3. different tasks
 - 4. common termed

Question ID : 9895809121
Chosen Option : --

Q.2
1 Select the meaning of the given idiom.

To strain every nerve

- Ans
- 1. To spoil relationship
 - 2. To be unwell
 - 3. To put maximum effort
 - 4. To get away with

Question ID : 9895809139
Chosen Option : --

Q.2
2 Select the most appropriate option to substitute the underlined segment in the given sentence. If there is no need to substitute it, select No substitution required.

Many people believe that women make better nurses because they are patient and gentle.

- Ans
- 1. because they have been
 - 2. No substitution required
 - 3. because they were
 - 4. as they would

Question ID : 9895809123
Chosen Option : --

Q.2
3 Select the most appropriate word to fill in the blank.

The Indian cricket team was in a _____ mood after winning the series.

- Ans
- 1. anxious
 - 2. jubilant
 - 3. glorious
 - 4. serene

Question ID : 9895809145
Chosen Option : --

Q.2
4 Select the antonym of the given word.

ALIEN

- Ans
- 1. Native
 - 2. Foreign
 - 3. Unfamiliar
 - 4. Overseas

Question ID : 9895809136

Chosen Option : --

Q.2 Identify the segment in the sentence which contains the grammatical error from the given options.

5

The government has set up Anganwadis or child-care centers in several village in the country.

Ans

- 1. set up
- 2. several village
- 3. in the country.
- 4. The government

Question ID : 9895809122

Chosen Option : --

Section : Hindi Language

Q.1 'आत्मजा' का पर्यायवाची शब्द है -

Ans

- 1. सुत
- 2. अंबा
- 3. तनया
- 4. भार्या

Question ID : 9895807092

Chosen Option : 4

Q.2 'सब जगह' के लिए एक शब्द है-

Ans

- 1. सर्वेश
- 2. सर्वत्र
- 3. समदर्शी
- 4. वायु

Question ID : 9895807095

Chosen Option : 2

Q.3 'अधुनातन' का विलोम शब्द चयन करें।

Ans

- 1. आधुनिक
- 2. नया
- 3. पुरातन
- 4. अनावरण

Question ID : 9895807090

Chosen Option : 1

Comprehension:

निम्नलिखित गद्यांश के रिक्त स्थानों की पूर्ति गद्यांश के नीचे दिए गए प्रश्नों के अनुसार कीजिए-

मनुष्य शारीरिक कष्ट से ही पीछे _____ (1) वाला प्राणी नहीं है। मानसिक क्लेश की संभावना से भी कर्मों की ओर प्रवृत्त होने का _____ (2) उसे नहीं होता। जिन बातों से समाज के बीच उपहास, निन्दा, अपमान इत्यादि का _____ (3) रहता है उन्हें अच्छा समझते हुए भी बहुत से लोग उनसे दूर रहते हैं। _____ (4) देखते हुए भी बहुत से लोग प्रथाओं का पालन इसलिए करते हैं कि नहीं करने से वे बुरे कहे जायेंगे। लोगों में उनका _____ (5) न रह जायेगा।

SubQuestion No : 4

Q.4 गद्यांश में संकेतित रिक्त स्थान (1) के लिए उपयुक्त शब्द होगा।

- Ans
- 1. लगने
 - 2. करने
 - 3. हटने
 - 4. मिटने

Question ID : 9895807084
Chosen Option : 3

Comprehension:

निम्नलिखित गद्यांश के रिक्त स्थानों की पूर्ति गद्यांश के नीचे दिए गए प्रश्नों के अनुसार कीजिए-

मनुष्य शारीरिक कष्ट से ही पीछे _____ (1) वाला प्राणी नहीं है। मानसिक क्लेश की संभावना से भी कर्मों की ओर प्रवृत्त होने का _____ (2) उसे नहीं होता। जिन बातों से समाज के बीच उपहास, निन्दा, अपमान इत्यादि का _____ (3) रहता है उन्हें अच्छा समझते हुए भी बहुत से लोग उनसे दूर रहते हैं। _____ (4) देखते हुए भी बहुत से लोग प्रथाओं का पालन इसलिए करते हैं कि नहीं करने से वे बुरे कहे जायेंगे। लोगों में उनका _____ (5) न रह जायेगा।

SubQuestion No : 5

Q.5 गद्यांश में संकेतित रिक्त स्थान (2) के लिए उपयुक्त शब्द होगा।

- Ans
- 1. इच्छा
 - 2. साहस
 - 3. प्रेरणा
 - 4. लगन

Question ID : 9895807085
Chosen Option : 2

Comprehension:

निम्नलिखित गद्यांश के रिक्त स्थानों की पूर्ति गद्यांश के नीचे दिए गए प्रश्नों के अनुसार कीजिए-

मनुष्य शारीरिक कष्ट से ही पीछे _____ (1) वाला प्राणी नहीं है। मानसिक क्लेश की संभावना से भी कर्मों की ओर प्रवृत्त होने का _____ (2) उसे नहीं होता। जिन बातों से समाज के बीच उपहास, निन्दा, अपमान इत्यादि का _____ (3) रहता है उन्हें अच्छा समझते हुए भी बहुत से लोग उनसे दूर रहते हैं। _____ (4) देखते हुए भी बहुत से लोग प्रथाओं का पालन इसलिए करते हैं कि नहीं करने से वे बुरे कहे जायेंगे। लोगों में उनका _____ (5) न रह जायेगा।

SubQuestion No : 6

Q.6 गद्यांश में संकेतित रिक्त स्थान (3) के लिए उपयुक्त शब्द होगा।

- Ans
- 1. घृणा
 - 2. क्रोध
 - 3. व्यथा
 - 4. भय

Question ID : 9895807086
Chosen Option : 4

Comprehension:

निम्नलिखित गद्यांश के रिक्त स्थानों की पूर्ति गद्यांश के नीचे दिए गए प्रश्नों के अनुसार कीजिए-

मनुष्य शारीरिक कष्ट से ही पीछे _____ (1) वाला प्राणी नहीं है। मानसिक क्लेश की संभावना से भी कर्मों की ओर प्रवृत्त होने का _____ (2) उसे नहीं होता। जिन बातों से समाज के बीच उपहास, निन्दा, अपमान इत्यादि का _____ (3) रहता है उन्हें अच्छा समझते हुए भी बहुत से लोग उनसे दूर रहते हैं। _____ (4) देखते हुए भी बहुत से लोग प्रथाओं का पालन इसलिए करते हैं कि नहीं करने से वे बुरे कहे जायेंगे। लोगों में उनका _____ (5) न रह जायेगा।

SubQuestion No : 7

Q.7 गद्यांश में संकेतित रिक्त स्थान (4) के लिए उपयुक्त शब्द होगा।

- Ans
- 1. लाभ
 - 2. यश
 - 3. हानि
 - 4. स्वार्थ

Question ID : 9895807087
Chosen Option : 4

Comprehension:

निम्नलिखित गद्यांश के रिक्त स्थानों की पूर्ति गद्यांश के नीचे दिए गए प्रश्नों के अनुसार कीजिए-

मनुष्य शारीरिक कष्ट से ही पीछे _____ (1) वाला प्राणी नहीं है। मानसिक क्लेश की संभावना से भी कर्मों की ओर प्रवृत्त होने का _____ (2) उसे नहीं होता। जिन बातों से समाज के बीच उपहास, निन्दा, अपमान इत्यादि का _____ (3) रहता है उन्हें अच्छा समझते हुए भी बहुत से लोग उनसे दूर रहते हैं। _____ (4) देखते हुए भी बहुत से लोग प्रथाओं का पालन इसलिए करते हैं कि नहीं करने से वे बुरे कहे जायेंगे। लोगों में उनका _____ (5) न रह जायेगा।

SubQuestion No : 8

Q.8 गद्यांश में संकेतित रिक्त स्थान (5) के लिए उपयुक्त शब्द होगा।

- Ans
- 1. संभव

- 2. निरादर
- 3. सम्मान
- 4. अपमान

Question ID : 9895807088
Chosen Option : 3

Q.9 दिए गए वाक्य का वह भाग ज्ञात करें जिसमें कोई त्रुटि है।

शिक्षित वर्ग की बेकारी श्रम का अवज्ञा के परिणाम का सबसे ज्वलंत उदाहरण है।

- Ans
- 1. शिक्षित वर्ग की बेकारी
 - 2. सबसे ज्वलंत
 - 3. श्रम का अवज्ञा के परिणाम का
 - 4. उदाहरण है।

Question ID : 9895807075
Chosen Option : 1

Q.10 दिए गए वाक्य में रेखांकित खंड को प्रतिस्थापित करने के लिए उपयुक्त विकल्प का चयन करें।

उसकी हरकतें गाँव वालों जैसी हैं।

- Ans
- 1. गाँवई
 - 2. अनपढों
 - 3. ग्रामीणों
 - 4. गाँवारू

Question ID : 9895807076
Chosen Option : 2

Q.11 दिए गए वाक्य का वह भाग ज्ञात करें जिसमें कोई त्रुटि है।

पाखंड व दिखावा हमारे जीवन का अभिन्न अंग बन गयी है।

- Ans
- 1. हमारे जीवन का
 - 2. बन गयी है।
 - 3. पाखंड व दिखावा
 - 4. अभिन्न अंग

Question ID : 9895807074
Chosen Option : 3

Q.1
2

रिक्त स्थान को भरने के लिए उपयुक्त शब्द का चयन करें।

यह एक बहुत ही _____ समस्या है।

- Ans
- 1. निश्चिन्त
 - 2. अच्छी
 - 3. चिंतित
 - 4. गंभीर

Question ID : 9895807080
Chosen Option : 4

Q.1
3 रिक्त स्थान को भरने के लिए उपयुक्त शब्द का चयन करें।

_____ कपड़ा सिलना नहीं आता।

- Ans
- 1. उससे
 - 2. उसने
 - 3. वे
 - 4. उसे

Question ID : 9895807082
Chosen Option : 4

Q.1
4 रिक्त स्थान को भरने के लिए उपयुक्त शब्द का चयन करें।

मनोज, नीरज और कविता खेल _____ हैं।

- Ans
- 1. रही
 - 2. रहीं
 - 3. रहे
 - 4. रहती

Question ID : 9895807079
Chosen Option : 3

Q.1
5 'उपकार' का विलोम शब्द है-

- Ans
- 1. सहायता
 - 2. अपकार
 - 3. परोपकार
 - 4. मदद

Question ID : 9895807089
Chosen Option : 3

Q.1
6 रिक्त स्थान को भरने के लिए उपयुक्त शब्द का चयन करें।

बच्चे की आँखों से आँसू बहने _____।

- Ans
- 1. लगी
 - 2. लगे
 - 3. हुए
 - 4. लगा

Question ID : 9895807081
Chosen Option : 2

Q.1
7 'पंद्रह दिन में एक बार होने वाला' के लिए एक शब्द है-

- Ans
- 1. वार्षिक
 - 2. अर्द्धवार्षिक
 - 3. पाक्षिक
 - 4. मासिक

Question ID : 9895807096
Chosen Option : 2

Q.1
8 दिए गए वाक्य में रेखांकित खंड को प्रतिस्थापित करने के लिए उपयुक्त विकल्प का चयन करें।

मृत्यु जीवन का शाश्वत सत्य है।

- Ans
- 1. दुःखद
 - 2. अंतिम
 - 3. चिरन्तन
 - 4. एकमात्र

Question ID : 9895807078
Chosen Option : 4

Q.1
9 सही वर्तनी वाले शब्द का चयन करें।

- Ans
- 1. शताब्दी
 - 2. शताब्दि
 - 3. शैताब्दी
 - 4. शिताब्दि

Question ID : 9895807098
Chosen Option : 1

Q.2
0 'गूँगे का गुड़' अर्थ के लिए सही मुहावरे का चयन करें।

- Ans
- 1. कीमती वस्तु
 - 2. अवर्णनीय अनुभव
 - 3. दुर्लभ वस्तु
 - 4. असंभव कार्य

Question ID : 9895807093
Chosen Option : 2

Q.2
1 सही वर्तनी वाले शब्द का चयन करें।

- Ans
- 1. आर्शिवाद
 - 2. पारलौकिक
 - 3. परिक्षा
 - 4. बिमारी

Question ID : 9895807097
Chosen Option : 1

Q.2
2 'वातायन' का पर्यायवाची है-

- Ans
- 1. छत
 - 2. गवाक्ष
 - 3. ताख
 - 4. द्वार

Question ID : 9895807091
Chosen Option : 2

Q.2
3 'बहुत अधिक अभावग्रस्त होना' अर्थ के लिए सही मुहावरे का चयन करें।

- Ans
- 1. मुँह उतरना
 - 2. पेट में चूहे कूदना
 - 3. दाने-दाने को तरसना
 - 4. आटा गीला होना

Question ID : 9895807094
Chosen Option : 2

Q.2
4 दिए गए वाक्य में रेखांकित खंड को प्रतिस्थापित करने के लिए उपयुक्त विकल्प का चयन करें।

'रामचरितमानस' की तुलना नहीं की जा सकती है।

Ans

- 1. तुलनीय
- 2. अतुलनीय
- 3. अपकर्ष
- 4. अचिंत्य

Question ID : 9895807077

Chosen Option : 3

Q.2
5

दिए गए वाक्य का वह भाग ज्ञात करें जिसमें कोई त्रुटि है।

हम अनेकों छोटे-बड़े वर्गों में बँटे हुए हैं।

Ans

- 1. छोटे-बड़े
- 2. बँटे हुए हैं।
- 3. वर्गों में
- 4. हम अनेकों

Question ID : 9895807073

Chosen Option : 3

KD Job Updates

Constable (GD) In CAPFs, NIA, SSF and Rifleman (GD) In Assam Rifles Examination, 2018

Roll No. :	
Registration No.	
Name :	
Exam Venue :	
Exam Time :	9:00 AM - 10:30 AM
Exam Date :	08/03/2019

Section : **General Section**

Q1 दिए गए विकल्पों में से संबंधित शब्द युग्म का चयन करें।

हवाई जहाज : आकाश :: _____ : _____

- Ans
- 1. गाड़ी : सड़क
 - 2. तुरही : गीत
 - 3. सैनिक : सेना
 - 4. पुस्तक : प्रिंटर

Question ID : 9695608846
Chosen Option : 4

Q2 नीचे दिए गए कथनों के बाद दो निष्कर्ष I और II दिए गए हैं। यह मानते हुए कि कथनों में दी गई जानकारी सत्य है, भले ही वह सर्वज्ञात तथ्यों से भिन्न प्रतीत होती हो और यह निर्णय करें कि कौन सा / से निष्कर्ष तार्किक और निश्चित रूप से कथन में दी गई जानकारी का अनुसरण करता है / करते हैं।

कथन:

- I. सभी मेंडक, कछुआ हैं।
- II. कोई कछुआ, मगर मच्छ नहीं है।
- III. कुछ मगर मच्छ, हाथी हैं।

निष्कर्ष:

- I. कुछ कछुआ, मेंडक हैं।
- II. कोई मगर मच्छ, मेंडक नहीं है।

- Ans
- 1. या निष्कर्ष I या II अनुसरण करता है
 - 2. केवल निष्कर्ष II अनुसरण करता है
 - 3. दोनों निष्कर्ष अनुसरण करते हैं
 - 4. केवल निष्कर्ष I अनुसरण करता है

Question ID : 9695608854

Q3 नीचे दिए गए कथनों के बाद दो निष्कर्ष I और II दिए गए हैं। यह मानते हुए कि कथनों में दी गई जानकारी सत्य है, भले ही वह सर्वज्ञात तथ्यों से भिन्न प्रतीत होती हो और यह निर्णय करें कि कौन सा / से निष्कर्ष तार्किक और निश्चित रूप से कथन में दी गई जानकारी का अनुसरण करता है / करते हैं।

कथन:-

- I. सभी घोड़े, भैंस हैं।
- II. सभी भैंस, घास हैं।

निष्कर्ष:-

- I. सभी घोड़े, घास हैं।
- II. सभी घास, घोड़े हैं।

Ans

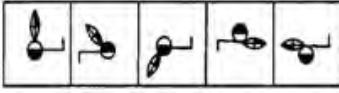
1. न तो निष्कर्ष I न ही II अनुसरण करता है।
2. या तो निष्कर्ष I या II अनुसरण करता है।
3. केवल निष्कर्ष I अनुसरण करता है।
4. केवल निष्कर्ष II अनुसरण करता है।

Question ID : 9895808855

Chosen Option : 2

Q4 वह विकल्प का चयन करें जो दी गई आकृति श्रृंखला को पूरा करता है।

प्रश्न आकृति



Ans

- 1.
- 2.
- 3.
- 4.

Question ID : 9895808862

Chosen Option : 2

Q5 उस विकल्प का चयन करें जो तीसरे पद से उसी तरह संबंधित है जिस प्रकार दूसरा पद पहले पद से संबंधित है।

56 : 72 :: 63 : ?

Ans

1. 77
2. 80
3. 74
4. 70

Question ID : 9895808858

Chosen Option : 4

Q6 यदि '+' का अर्थ '-', 'x' का अर्थ '+', '-' का अर्थ '+', और '-' का अर्थ 'x', है, तो:

$$88 \times 11 - 7 \div 4 = ?$$

Ans 1. 60

2. 70

3. 65

4. 45

Question ID : 9895808861

Chosen Option : 1

Q7 एक वर्गाकार पारदर्शी शीट एक पैटर्न के साथ दी गई है। जब शीट को बिंदीदार रेखा पर मोड़ा जाता है तो पैटर्न दिए गए विकल्पों में से कसा दिखाई देगा?

Question Figures:



Ans 1.

2.

3.

4.

Question ID : 9895808866

Chosen Option : 3

Q8 P, Q, R, S, T, U और V एक वृत्ताकार मेज के चारों ओर बैठे हैं।

S, R या T का पड़ोसी नहीं है।

P, Q और R का पड़ोसी है।

V, जो कि S के बाएं से दूसरा है, T और U का पड़ोसी है।

R का स्थान क्या है ?

Ans 1. S के दाएं से दूसरा

2. U के बाएं से तीसरा

3. P के तुरंत बायीं ओर

4. V के तुरंत दायीं ओर

Question ID : 9895808851

Chosen Option : 1

Q9 चार शब्द दिए गए हैं, जिनमें से तीन किसी तरह से समान हैं, जबकि एक अलग है। असंगत शब्द का चयन करें।

Ans 1. अपरिमेय संख्या

2. प्राकृतिक संख्या

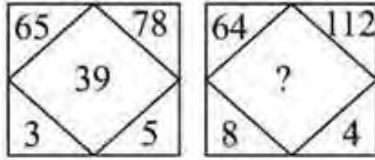
3. पूर्ण संख्या

4. पूर्णांक संख्या

Question ID : 9895808845

Chosen Option : 4

Q10 दिए गए विकल्पों में से लुप्त संख्या ज्ञात करें।



Ans 1. 32

2. 30

3. 40

4. 42

Question ID : 9895808860

Chosen Option : 4

Q11 उस विकल्प का चयन करें जो तीसरे पद से उसी तरह संबंधित है जिस प्रकार दूसरा पद पहले पद से संबंधित है।

HFFH : KCCK :: JPPJ : _____

Ans 1. KMMK

2. MMMM

3. NBBN

4. UHHU

Question ID : 9895808878

Chosen Option : 2

Q12 उस विकल्प का चयन करें जो सही रूप में रिक्त स्थान की पूर्ति करते हुए श्रृंखला को पूरा करें।

EJL, HPR, KVX, ?

Ans 1. NGD

- 2. MBD
- 3. NBD
- 4. NBC

Question ID : 9895808843
Chosen Option : 3

QJ3 चार अक्षर समूह दिए गए हैं, जिनमें से तीन किसी तरह से समान हैं, जबकि एक अलग है। असंगत अक्षर समूह का चयन करें।

- Ans**
- 1. BEH
 - 2. KNQ
 - 3. MPS
 - 4. CHI

Question ID : 9895808844
Chosen Option : 4

QJ4 उस विकल्प का चयन करें जो सही रूप में रिक्त स्थान की पूर्ति करते हुए श्रृंखला को पूरा करे।
12, 57, 282, 1407, 7032, ?

- Ans**
- 1. 35157
 - 2. 36751
 - 3. 35147
 - 4. 35751

Question ID : 9895808857
Chosen Option : 1

QJ5 निम्नलिखित में से कौन सी उत्तर आकृति दी गई आकृति को पूरा करेगी?

प्रश्न आकृति:



- Ans**
- 1.
 - 2.
 - 3.
 - 4.

Q16 उस विकल्पका चयन करें जो दर्पण के दायीं ओर रखे जाने पर दी गई आकृति की दर्पण छवि से सर्वाधिक मेल खाता है।

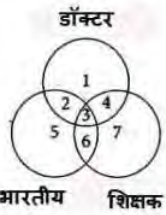
प्रश्न आकृति:



Ans

- 1.
- 2.
- 3.
- 4.

Q17 निम्नलिखित आरेख में, तीन वृत्त हैं, आरेख का ध्यानपूर्वक अध्ययन करें और दिए गए प्रश्न का उत्तर दें।



उन शिक्षकों का पता लगाएं जो न तो डॉक्टर हैं और न ही भारतीय।

- Ans
- 1. 5
 - 2. 7
 - 3. 1
 - 4. 2

Q18 एक निश्चित कूट में, PROGRAM को MRRGOAP के रूप में कूटबद किया जाता है। उस कोड में COUNTRY को कैसे कूटबद किया जाता है?

- Ans
- 1. YOTNUCR
 - 2. TOYNURC
 - 3. YOTNURC
 - 4. TOYNUCR

Q19 दिए गए विकल्पों में से संबंधित शब्द युग्म का चयन करें।

जलचर : मछली :: _____ : _____

- Ans
- 1. स्तनधारी : कछुआ
 - 2. उभयचर : मेंढक
 - 3. जलीय : बगुला
 - 4. सरीसृप : दीमक

Question ID : 9895808847
Chosen Option : 1

Q20 चार विकल्प दिए गए हैं, जिनमें से तीन किसी तरह से समान हैं, जबकि एक अलग है। असंगत का चयन करें।

- Ans
- 1. 24 : 32
 - 2. 36 : 48
 - 3. 26 : 18
 - 4. 12 : 16

Question ID : 9895808859
Chosen Option : 3

Q21 X, Z से बड़ा है और Y, Z से छोटा है। Z, W से बड़ा है, W, X से छोटा है। सबसे बड़ा कौन है?

- Ans
- 1. Z
 - 2. Y
 - 3. X
 - 4. W

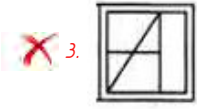
Question ID : 9895808853
Chosen Option : 3

Q22 उस विकल्प आकृति का चयन करें, जिसमें प्रश्न आकृति छिपी हुई / अंतर्निहित है।

प्रश्न आकृति:



- Ans
- 1.
 - 2.



Question ID : 9895608864
Chosen Option : 2

Q23 उस विकल्प का चयन करें जो सही रूप में रिक्त स्थान की पूर्ति करते हुए श्रृंखला को पूरा करें।

71, 93, 137, 203, 291, ?

- Ans
- 1. 400
 - 2. 389
 - 3. 401
 - 4. 399

Question ID : 9895608856
Chosen Option : 3

Q24 यदि G = 49 और BU को 4441 लिखते हैं, तो DM को कैसे लिखा जाएगा?

- Ans
- 1. 16144
 - 2. 19169
 - 3. 16169
 - 4. 16196

Question ID : 9895608850
Chosen Option : 3

Q25 छः व्यक्ति A, B, C, D, E तथा F दो पंक्तियों में, प्रत्येक पंक्ति में तीन बैठे हैं।

- E किसी भी पंक्ति के अंत में नहीं है।
- D, F के बाईं ओर से दूसरे स्थान पर है।
- C, E का पड़ोसी है तथा D से विकर्णतः बैठा है।
- B, F का पड़ोसी है।

निम्न में से कौन एक दूसरे के विकर्णतः विपरीत बैठा है?

- Ans
- 1. D तथा A
 - 2. A तथा C
 - 3. F तथा C
 - 4. A तथा F

Question ID : 9895608852

Q26 चीन के ग्वांगडू में आयोजित BWF वर्ल्ड टूर फाइनल्स 2018 में, पीवी सिंधु ने जापान की _____ को हराया।

Ans

- 1. चेन युफेई
- 2. कोरोलिना मारिन
- 3. ताई जु यिंग
- 4. नोजोमी ओकुहारा

Question ID : 989580897

Chosen Option : 3

Q27 ओज़ोन परत निम्न में से किस मंडल में स्थित है?

Ans

- 1. तापमंडल (थर्मोस्फिअर)
- 2. मध्यमंडल (मेसोस्फिअर)
- 3. समतापमंडल (स्ट्रेटोस्फिअर)
- 4. क्षोभमंडल (ट्रोपोस्फिअर)

Question ID : 989580899

Chosen Option : 4

Q28 चित्तौड़गढ़ के किले के अंदर विजय के प्रतीक 'विजय स्तम्भ' का निर्माण किसने कराया?

Ans

- 1. राणा उदय सिंह
- 2. राणा कुंभा
- 3. महाराणा प्रताप
- 4. राणा सांगा

Question ID : 989580895

Chosen Option : 1

Q29 भारत के सुप्रसिद्ध संगीतज्ञ उस्ताद बिस्मिल्लाह खां को 2001 में _____ पुरस्कार से सम्मानित किया गया था।

Ans

- 1. पद्म भूषण
- 2. पद्म श्री
- 3. पद्म विभूषण
- 4. भारत रत्न

Question ID : 989580893

Chosen Option : 1

Q30 किस मुगल सम्राट ने सुलह-ए-कुल के विचार पर जोर दिया?

- Ans
- 1. बाबर
 - 2. शाहजहाँ
 - 3. अकबर
 - 4. हुमायूँ

Question ID : 9895808916
Chosen Option : 4

Q31 निम्न में से किस राज्य में स्थायी वनों द्वारा आच्छादित क्षेत्रफल सर्वाधिक है?

- Ans
- 1. उत्तराखंड
 - 2. मध्य प्रदेश
 - 3. जम्मू एवं कश्मीर
 - 4. आंध्रप्रदेश

Question ID : 9895808912
Chosen Option : 1

Q32 2018 में इंडोनेशिया में संपन्न हुए एशियाई खेलों में भारत ने किस प्रतियोगिता में सर्वाधिक पदक जीते?

- Ans
- 1. मुक्केबाज़ी
 - 2. कुश्ती
 - 3. निशानेबाज़ी
 - 4. एथलेटिक्स

Question ID : 9895808916
Chosen Option : 3

Q33 तेरा ताली, _____ के कन्नड़ जनजाति का प्रसिद्ध लोक नृत्य है।

- Ans
- 1. केरल
 - 2. ओडीशा
 - 3. तमिलनाडु
 - 4. राजस्थान

Question ID : 9895808914
Chosen Option : 2

Q34 2018 में इंडोनेशिया में संपन्न हुए एशियाई खेलों में भारत की ओर से सबसे कम उम्र में स्वर्ण पदक जीतने वाले सौरभ चौधरी का संबंध किस प्रतिस्पर्धा से है?

- Ans
- 1. जिम्नास्टिक
 - 2. तैराकी

3. एथलेटिक्स

4. निशानेबाज़ी

Question ID : 9895808900
Chosen Option : 2

Q.35 65वें राष्ट्रीय फिल्म पुरस्कारों में सर्वश्रेष्ठ हिंदी फिल्म का पुरस्कार किस फिल्म ने जीता?

Ans 1. टॉयलेट एक प्रेम कथा

2. न्यूटन

3. बाहुबली 2

4. माँम

Question ID : 9895808908
Chosen Option : 3

Q.36 निम्न में से कौन सा प्रकाश के प्रकीर्णन का उदाहरण नहीं है?

Ans 1. आकाश का नीला रंग

2. सूर्योदय और सूर्यास्त के समय सूर्य का लाल होना

3. गहरे समुद्र में जल का रंग

4. तारों का टिमटिमाना

Question ID : 9895808908
Chosen Option : 3

Q.37 स्वच्छ भारत अभियान की शुरुआत कब से हुयी?

Ans 1. 2 अक्टूबर 2014

2. 15 अगस्त 2014

3. 26 जनवरी 2014

4. 30 जनवरी 2014

Question ID : 9895808911
Chosen Option : 1

Q.38 निम्न में से किसमें चार कक्षीय हृदय पाया जाता है?

Ans 1. मेढक

2. मगरमच्छ

3. मछली

4. गिरगिट

Question ID : 9895808910

Chosen Option : 4

Q.39 जब अम्ल, जल के साथ अभिक्रिया करता है, तो _____ उत्पन्न होती है।

- Ans
- 1. नाइट्रेट आयन
 - 2. ऑक्सीजन गैस
 - 3. हाइड्रोजन गैस
 - 4. हाइड्रोनीअम आयन

Question ID : 9895808907

Chosen Option : 1

Q.40 निम्न में से कौन सा भारत का एक प्रमुख लौह अयस्क निर्यात बंदरगाह है?

- Ans
- 1. विशाखापत्तनम
 - 2. तूतीकोरिन
 - 3. मोरमुगाओ
 - 4. कांदला

Question ID : 9895808913

Chosen Option : 1

Q.41 रॉलेट एक्ट भारत में कब लागू किया गया?

- Ans
- 1. 1918
 - 2. 1919
 - 3. 1921
 - 4. 1920

Question ID : 9895808917

Chosen Option : 3

Q.42 किस गवर्नर जनरल ने सती प्रथा को खत्म किया था?

- Ans
- 1. लॉर्ड हेस्टिंग्स
 - 2. लॉर्ड डलहौजी
 - 3. लॉर्ड कार्नवालिस
 - 4. लॉर्ड बेंटिक

Question ID : 9895808915

Chosen Option : 1

Q.43 महात्मा गांधी राष्ट्रीय ग्रामीण रोजगार गारंटी अधिनियम (MNREGA) साल _____ से लागू हुआ।

- Ans
- 1. 2004
 - 2. 2002
 - 3. 2005
 - 4. 2003

Question ID : 9895808903
Chosen Option : 1

Q.44 निम्न में से किसको अचल संपत्ति के रूप में वर्गीकृत नहीं किया जाता?

- Ans
- 1. इमारतें
 - 2. साधन
 - 3. कच्चा माल
 - 4. मशीनें

Question ID : 9895808902
Chosen Option : 2

Q.45 नोबेल पुरस्कार निम्न में से किस क्षेत्र में नहीं दिया जाता है?

- Ans
- 1. जीव विज्ञान
 - 2. भौतिक विज्ञान
 - 3. रसायन विज्ञान
 - 4. साहित्य

Question ID : 9895808899
Chosen Option : 2

Q.46 2012-13 में शिक्षा पर खर्च जीडीपी के प्रतिशत के रूप में _____ था।

- Ans
- 1. 4.5%
 - 2. 3.1%
 - 3. 4.7%
 - 4. 3.7%

Question ID : 9895808901
Chosen Option : 2

Q.47 निम्न में से कौन सा अधिकार 1978 से एक मौलिक अधिकार नहीं है?

- Ans
- 1. स्वतंत्रता का अधिकार
 - 2. समानता का अधिकार
 - 3. संपत्ति का अधिकार
 - 4. संवैधानिक उपचार का अधिकार

Question ID : 9895808904
Chosen Option : 4

Q.48 _____ के प्रधानमंत्रित्व काल में राष्ट्रीय स्तर पर भारत की पहली गठबंधन सरकार का गठन किया गया था।

- Ans
- 1. चंद्रशेखर
 - 2. वी.पी. सिंह
 - 3. मोरारजी देसाई
 - 4. चौधरी चरण सिंह

Question ID : 9895808906
Chosen Option : 4

Q.49 निम्न में से कौन सी रबी की फसल नहीं है?

- Ans
- 1. गेहूँ
 - 2. चना
 - 3. मक्का
 - 4. जौ

Question ID : 9895808914
Chosen Option : 3

Q.50 निम्न में से कौन सा एक नगर निगम का कार्य नहीं है?

- Ans
- 1. बिजली और जल आपूर्ति
 - 2. कानून और व्यवस्था
 - 3. स्वास्थ्य और सफाई
 - 4. सार्वजनिक कार्य

Question ID : 9895808905
Chosen Option : 2

Q.51 निर्देश: दिये गये प्रश्न निम्न तालिका पर आधारित है। तालिका को पढ़कर दिए प्रश्नों के उत्तर दीजिए।

-	उत्पादन (हजार टन में)		
	चावल	गेहूँ	दाल
P	45	100	30
Q	48	85	20
R	60	30	25
S	40	32	20
T	37	20	15

किस राज्य में दालों का उत्पादन सबसे अधिक था?

- Ans
- 1. R

2. S

3. Q

4. P

Question ID : 9895809041

Chosen Option : 4

Q52 यदि 40 संतरे का विक्रय मूल्य 50 संतरे के क्रय मूल्य के बराबर है तो प्रतिशत हानि/लाभ कितना है?

Ans 1. 10% लाभ

2. 5% हानि

3. 20% हानि

4. 25% लाभ

Question ID : 9895809027

Chosen Option : 3

Q53 एक राशि 6 वर्षों में 33% वार्षिक साधारण दर की तुलना में 37% वार्षिक साधारण दर से ₹ 54 अधिक उत्पन्न प्राप्त करती है। राशि _____ है।

Ans 1. ₹ 450

2. ₹ 250

3. ₹ 255

4. ₹ 225

Question ID : 9895809031

Chosen Option : 2

Q54 तीन घंटियाँ एक साथ रात 8 बजे बजती हैं। वे क्रमशः 20 मिनट, 30 मिनट, 40 मिनट के अंतराल पर बजती हैं। तीनों घंटियाँ एक साथ अगली बार कब बजेगी?

Ans 1. रात 10 बजे

2. रात 10.30 बजे

3. रात 11 बजे

4. रात 11.15 बजे

Question ID : 9895809018

Chosen Option : 2

Q55

एक समचतुर्भुज की परिमाप 80 cm है। और एक कोण 45° है। समचतुर्भुज का क्षेत्रफल _____ है।

- Ans
- 1. 128 sq. cm
 - 2. $240\sqrt{2}$ sq. cm
 - 3. $200\sqrt{2}$ sq. cm
 - 4. 364 sq. cm

Question ID : 9895809037
Chosen Option : 3

Q56 एक आदमी अपनी मासिक आय का एक हिस्सा खर्च करता है और इसका एक हिस्सा बचाता है। उसके व्यय तथा उसकी बचत का अनुपात 1 : 2 है। यदि उसकी मासिक आय ₹ 24,000 है, तो उसकी मासिक बचत राशि कितनी है?

- Ans
- 1. ₹ 8000
 - 2. ₹ 18000
 - 3. ₹ 16000
 - 4. ₹ 12000

Question ID : 9895809030
Chosen Option : 1

Q57 एक निश्चित समय में एक निश्चित दूरी तय की जाती है। यदि 50% अधिक दूरी 40% कम समय में तय की जाती है, तो दोनों स्थिति में गति का संबंधित अनुपात क्या होगा?

- Ans
- 1. 3 : 2
 - 2. 3 : 5
 - 3. 2 : 5
 - 4. 2 : 3

Question ID : 9895809035
Chosen Option : 1

Q58 दो ट्रेनें 90 km/hr और 60 km/hr की चाल से एक ही दिशा में आगे बढ़ रही हैं। तीव्र गति से चल रही ट्रेन, मंद गति से चलने वाली ट्रेन और एक पोल को क्रमशः 30 सेकंड और 5 सेकंड में पार करती है। मंद गति ट्रेन की लंबाई क्या है?

- Ans
- 1. 135 मीटर
 - 2. 180 मीटर
 - 3. 125 मीटर
 - 4. 150 मीटर

Question ID : 9895809036
Chosen Option : 1

Q59 21 छात्रों की औसत लंबाई 142 cm है। यदि शिक्षक की लंबाई शामिल की जाए तो औसत लंबाई 1 cm बढ़ जाती है। शिक्षक की लंबाई _____ है।

Ans

- 1. 160 cm
- 2. 161 cm
- 3. 164 cm
- 4. 162 cm

Question ID : 9895809022
Chosen Option : 4

Q60 यदि किसी वस्तु का अंकित मूल्य ₹ 1000 है। वस्तु पर 30% और 10% और 10% की दो क्रमिक छूट के बीच का अंतर _____ है।

Ans

- 1. ₹ 120
- 2. ₹ 115
- 3. ₹ 100
- 4. ₹ 110

Question ID : 9895809023
Chosen Option : 2

Q61 दो संख्याएँ 11 : 13 के अनुपात में हैं। यदि प्रत्येक संख्या में 9 जोड़ा जाता है, तो अनुपात 65 : 76 हो जाता है। छोटी संख्या _____ है।

Ans

- 1. 121
- 2. 156
- 3. 130
- 4. 143

Question ID : 9895809028
Chosen Option : 2

Q62 टीसीपी के 15 श्रमिकों के मासिक वेतन का माध्य ₹ 18000 और एचसीआर के 25 श्रमिकों के मासिक वेतन का माध्य ₹ 12000 है। सभी 40 श्रमिकों के मासिक वेतन का माध्य क्या है?

Ans

- 1. ₹ 12250
- 2. ₹ 16500
- 3. ₹ 14250

4. ₹ 17750

Question ID : 9895809024
Chosen Option : 2

Q63 दो संख्याओं के बीच का अनुपात 3 : 7 है। यदि दोनों संख्याओं के बीच का अंतर 40 है। दोनों संख्याओं का योग _____ है।

- Ans
- 1. 125
 - 2. 100
 - 3. 80
 - 4. 110

Question ID : 9895809029
Chosen Option : 3

Q64 $\frac{1}{3} \times \frac{3}{4} \div \frac{11}{10}$ of $\frac{1}{5} = ?$

- Ans
- 1. $\frac{12}{25}$
 - 2. $\frac{25}{22}$
 - 3. $\frac{5}{3}$
 - 4. $\frac{3}{5}$

Question ID : 9895809020
Chosen Option : 1

Q65 एक घनाभ की लंबाई, चौड़ाई और ऊंचाई क्रमशः 9 cm, 6 cm और 4 cm है। घन का आयतन दिए गए घनाभ के आयतन के बराबर है। घन की भुजा _____ है।

- Ans
- 1. 12 cm
 - 2. 9 cm
 - 3. 6 cm
 - 4. 3 cm

Question ID : 9895809039
Chosen Option : 1

Q66

निर्देश: दिये गये प्रश्न निम्न तालिका पर आधारित है। तालिका को पढ़कर दिए प्रश्नों के उत्तर दीजिए।

-	उत्पादन (हजार टन में)		
	चावल	गेहूं	दाल
P	45	100	30
Q	48	85	20
R	60	30	25
S	40	32	20
T	37	20	15

सभी 5 राज्यों में चावल का औसत उत्पादन (हजार टन में) _____ था।

Ans

1. 45

2. 46

3. 42

4. 40

Question ID : 9895809040

Chosen Option : 3

Q67

यदि 11 क्रमिक धनात्मक पूर्णांकों का औसत 7 है, तो सबसे छोटी संख्या _____ है।

Ans

1. 3

2. 5

3. 2

4. 1

Question ID : 9895809021

Chosen Option : 1

Q68

यदि किसी संख्या का 20 प्रतिशत 120 है, तो उस संख्या का 120% _____ होगा।

Ans

1. 720

2. 360

3. 20

4. 120

Question ID : 9895809025

Chosen Option : 2

Q69

किसी राशि पर 10% वार्षिक व्याज की दर से 2 वर्ष के चक्रवृद्धि ब्याज और साधारण ब्याज का अंतर ₹ 150 है। राशि (₹ में) है:

- Ans
- 1. ₹ 15500
 - 2. ₹ 10000
 - 3. ₹ 15000
 - 4. ₹ 22000

Question ID : 9895809032
Chosen Option : 3

Q70 35 m भुजा के एक वर्ग भूखंड के एक कोने पर एक छोड़े को 28 m लंबी रस्सी से बांधा जाता है। बिना चरा हुआ क्षेत्र _____ क्षेत्रफल का होगा।

- Ans
- 1. 576 m²
 - 2. 504 m²
 - 3. 609 m²
 - 4. 632 m²

Question ID : 9895809038
Chosen Option : 3

Q71 A और B एक साथ 6 दिनों में एक कार्य कर सकते हैं और वही काम A अकेला 9 दिनों में कर सकता है। B अकेला उस कार्य को कितने दिनों में कर सकता है?

- Ans
- 1. 16 दिन
 - 2. 20 दिन
 - 3. 15 दिन
 - 4. 18 दिन

Question ID : 9895809034
Chosen Option : 1

Q72 यदि एक पाइप A, एक टंकी को 25 मिनट में भर सकता है तो A की क्षमता की 25% क्षमता वाले 4 पाइप टंकी को _____ में भर सकते हैं।

- Ans
- 1. 90 मिनट
 - 2. 80 मिनट
 - 3. 25 मिनट
 - 4. 20 मिनट

Q73 ₹ 1 में 40 पिन बेचने पर एक दुकानदार को 25% का नुकसान होता है। 20% लाभ पाने के लिए उसे कितने ₹ 1 में कितनी पिन बेचनी चाहिए?

Ans

1. 32

2. 25

3. 20

4. 30

Q74 $5 + 3 \div (4 - 2) + 2 \times 5 \div 5$ का 2 = ?

Ans

1. $5\frac{1}{4}$

2. $5\frac{1}{2}$

3. $7\frac{1}{2}$

4. $4\frac{1}{4}$

Q75 निर्देश: दिये गये प्रश्न निम्न तालिका पर आधारित हैं। तालिका को पढ़कर दिए प्रश्नों के उत्तर दीजिए।

-	उत्पादन (हजार टन में)		
	चावल	गेहूं	दाल
P	45	100	30
Q	48	85	20
R	60	30	25
S	40	32	20
T	37	20	15

राज्य R में चावल और गेहूं की उत्पादित मात्राओं में अनुपात कितना था?

Ans

1. 3 : 5

2. 1 : 1

3. 2 : 1

4. 1 : 2

Section : English Language

Q1 Select the most appropriate option to substitute the underlined segment in the given sentence. If there is no need to substitute it, select 'No substitution required'.

The major hubs of Information Technology industry is the Silicon Valley of central California.

- Ans**
- 1. The majors hub of
 - 2. Major hub in
 - 3. A major hub of
 - 4. No substitution required

Question ID : 9895809150

Chosen Option : -

Q2 Select the antonym of the given word.

LATENT

- Ans**
- 1. Concealed
 - 2. Latest
 - 3. Hidden
 - 4. Evident

Question ID : 9895809162

Chosen Option : -

Q3 Select the meaning of the given idiom.

A hard nut to crack

- Ans**
- 1. One who is capable
 - 2. One who is cruel
 - 3. A difficult problem
 - 4. A problem easily solved


Question ID : 9895809164

Chosen Option : -

Q4 Select the word which means the same as the group of words given.

A partial or total loss of memory





- Ans**
- 1. Claustrophobia
 - 2. Nostalgia
 - 3. Amnesia

 4. Xenophobia

Question ID : 9895809167
Chosen Option : -

Q5 Identify the segment in the sentence which contains the grammatical error from the given options.





In industries, accidents mainly occur due to technical fail.

- Ans**
-  1. mainly occur
 -  2. due to
 -  3. technical fail
 -  4. In industries

Question ID : 9895809148
Chosen Option : -

Q6 Select the most appropriate word to fill in the blank.

One should be _____ with what one has.

- Ans**
-  1. content
 -  2. inspired
 -  3. consistent
 -  4. gifted

Question ID : 9895809171
Chosen Option : -



Comprehension:

In the following passage some words have been deleted. Fill in the blanks with the help of the alternatives given. Select the most appropriate option for each number.

Population change refers to change in the (1) _____ of people during a specific time. The world population (2) _____ not been stable. It has (3) _____ manifold. This is primarily due to changes (4) _____ the number of births and deaths. The (5) _____ between the birth and death rates determines the growth rate.

SubQuestion No : 7

Q7 Select the most appropriate option that will fill in the blank number 1.

- Ans**
-  1. quantity
 -  2. number

3. amount

4. portion

Question ID : 9895809155
Chosen Option : -

Comprehension:

In the following passage some words have been deleted. Fill in the blanks with the help of the alternatives given. Select the most appropriate option for each number.

Population change refers to change in the (1) _____ of people during a specific time. The world population (2) _____ not been stable. It has (3) _____ manifold. This is primarily due to changes (4) _____ the number of births and deaths. The (5) _____ between the birth and death rates determines the growth rate.

SubQuestion No : 8

Q8 Select the most appropriate option that will fill in the blank number 2.

- Ans 1. has
 2. were
 3. have
 4. was

Question ID : 9895809156
Chosen Option : -

Comprehension:

In the following passage some words have been deleted. Fill in the blanks with the help of the alternatives given. Select the most appropriate option for each number.

Population change refers to change in the (1) _____ of people during a specific time. The world population (2) _____ not been stable. It has (3) _____ manifold. This is primarily due to changes (4) _____ the number of births and deaths. The (5) _____ between the birth and death rates determines the growth rate.

SubQuestion No : 9

Q9 Select the most appropriate option that will fill in the blank number 3.

- Ans 1. enlarged

- 2. marked
- 3. added
- 4. increased

Question ID : 9895809157
Chosen Option : -

Comprehension:

In the following passage some words have been deleted. Fill in the blanks with the help of the alternatives given. Select the most appropriate option for each number.

Population change refers to change in the (1) _____ of people during a specific time. The world population (2) _____ not been stable. It has (3) _____ manifold. This is primarily due to changes (4) _____ the number of births and deaths. The (5) _____ between the birth and death rates determines the growth rate.

SubQuestion No : 10

Q10 Select the most appropriate option that will fill in the blank number 4.

- Ans**
- 1. of
 - 2. to
 - 3. in
 - 4. at

Question ID : 9895809158
Chosen Option : -

Comprehension:

In the following passage some words have been deleted. Fill in the blanks with the help of the alternatives given. Select the most appropriate option for each number.

Population change refers to change in the (1) _____ of people during a specific time. The world population (2) _____ not been stable. It has (3) _____ manifold. This is primarily due to changes (4) _____ the number of births and deaths. The (5) _____ between the birth and death rates determines the growth rate.

SubQuestion No : 11

Q11 Select the most appropriate option that will fill in the blank number 5.

- Ans**
- 1. disturbance
 - 2. distance
 - 3. difference
 - 4. dependence

Question ID : 9895809159
Chosen Option : -

Q12 Select the word which means the same as the group of words given.

The study of the nature of God and religious beliefs

- Ans**
- 1. Gastronomy
 - 2. Theology
 - 3. Pathology
 - 4. Horticulture

Question ID : 9895809166
Chosen Option : -

Q13 Select the meaning of the given idiom.

A cock and bull story

- Ans**
- 1. An unbelievable tale
 - 2. An animal narrative
 - 3. A children's fable
 - 4. A lengthy dialogue

Question ID : 9895809165
Chosen Option : -

Q14 Select the most appropriate option to substitute the underlined segment in the given sentence. If there is no need to substitute it, select 'No substitution required'.

Steel is tough and it can easily be shaped, cut, or made into wire.

- Ans**
- 1. easy to be shaped
 - 2. easily shape
 - 3. No substitution required
 - 4. easily shaped

Question ID : 9895809151
Chosen Option : -

Q15

Identify the segment in the sentence which contains the grammatical error from the given options.

The public sector industries are owned and operate by the government.

- Ans**
- 1. operate
 - 2. by the government
 - 3. owned
 - 4. The public sector

Question ID : 9895809147
Chosen Option : -

Q16 Select the antonym of the given word.

DORMANT

- Ans**
- 1. Invisible
 - 2. Idle
 - 3. Active
 - 4. Asleep

Question ID : 9895809163
Chosen Option : -

Q17 Select the most appropriate option to substitute the underlined segment in the given sentence. If there is no need to substitute it, select 'No substitution required'.

Residential areas should be situated far away of industrialised areas.

- Ans**
- 1. from industrial areas
 - 2. in industrial areas
 - 3. to industrialised areas
 - 4. No substitution required

Question ID : 9895809149
Chosen Option : -

Q18 Select the most appropriate word to fill in the blank.

India has a glorious tradition _____ producing excellent quality cotton.

- Ans**
- 1. in
 - 2. at
 - 3. of
 - 4. for

Question ID : 9895809152
Chosen Option : -

Q19 Select the synonym of the given word.

CONDEMN

- Ans
- 1. Criticize
 - 2. Withdraw
 - 3. Praise
 - 4. Demand

Question ID : 9895809161
Chosen Option : -

Q20 Select the wrongly spelt word.

- Ans
- 1. Privilege
 - 2. Perspiration
 - 3. Preparation
 - 4. Posession

Question ID : 9895809168
Chosen Option : -

Q21 Select the wrongly spelt word.

- Ans
- 1. Village
 - 2. Villain
 - 3. Wenesday
 - 4. Weather

Question ID : 9895809169
Chosen Option : -

Q22 Select the most appropriate word to fill in the blank.

Bengaluru _____ for its mild climate throughout the year.

- Ans
- 1. knows
 - 2. is known
 - 3. has known
 - 4. knew

Question ID : 9895809153
Chosen Option : -

Q23

Select the most appropriate word to fill in the blank.

The President visited our town to _____ the statue of a great patriot.

- Ans
- 1. construct
 - 2. unveil
 - 3. discover
 - 4. commemorate

Question ID : 9895809170
Chosen Option : -

Q24 Identify the segment in the sentence which contains the grammatical error from the given options.

The finished product has most value and utility than the raw material.

- Ans
- 1. has most value
 - 2. than
 - 3. The finished product
 - 4. the raw material

Question ID : 9895809146
Chosen Option : -

Q25 Select the synonym of the given word.

OBSCURE

- Ans
- 1. Renowned
 - 2. Eminent
 - 3. Unknown
 - 4. Famous

Question ID : 9895809160
Chosen Option : -

Section : Hindi Language

QJ 'असाधारण बुद्धि वाले' के लिए एक शब्द होगा -

- Ans
- 1. असाधारण
 - 2. मेधा
 - 3. मेधावी
 - 4. मंदमेधा

Question ID : 9895807122
Chosen Option : 4

Q2 दिए गए वाक्य का वह भाग जात करें जिसमें कोई त्रुटि है।

किसी वस्तु का आयतन निकालने के लिए उसकी लम्बी, चौड़ी और मोटाई का आपस में गुणा कर देना चाहिए।

- Ans
- 1. उसकी लम्बी, चौड़ी और मोटाई का
 - 2. आयतन निकालने के लिए
 - 3. गुणा कर देना चाहिए।
 - 4. किसी वस्तु का

Question ID : 9895807101
Chosen Option : 3

Q3 दिए गए वाक्य में रेखांकित खंड को प्रतिस्थापित करने के लिए उपयुक्त विकल्प का चयन करें।

रात्रि में भौरा कमल की पंखुड़ियों में बंद हो जाता है।

- Ans
- 1. जलद
 - 2. पवमान
 - 3. गुलाब
 - 4. पद्म

Question ID : 9895807104
Chosen Option : 1

Q4 'उज्ज्वल' का विलोम शब्द चयन करें।

- Ans
- 1. धूमिल
 - 2. अतिउज्ज्वल
 - 3. अनुदार
 - 4. प्रोज्वल

Question ID : 9895807115
Chosen Option : 4

Q5 'गाल बजाना' मुहावरे का अर्थ है-

- Ans
- 1. कम बोलना
 - 2. लड़ाई करना
 - 3. गुस्सा होना
 - 4. बकवास करना

Question ID : 9895807120
Chosen Option : 4

Q6 सही वर्तनी वाले शब्द का चयन करें।

- Ans 1. ऋतु
 2. रीतू
 3. ऋतू
 4. रीतु

Question ID : 9895807124
Chosen Option : 1

Q7 रिक्त स्थान को भरने के लिए उपयुक्त शब्द का चयन करें।

विजय सत्यपाल का _____ है।

- Ans 1. सुता
 2. भगिनी
 3. आत्मजा
 4. अनुज

Question ID : 9895807107
Chosen Option : 4

Q8 'जलधर' का पर्यायवाची शब्द है -

- Ans 1. दिनकर
 2. अग्नि
 3. बादल
 4. अवनि

Question ID : 9895807118
Chosen Option : 3

Q9 'तुरंग' का पर्यायवाची शब्द है -

- Ans 1. घोड़ा
 2. कुंजर
 3. हिरण
 4. हाथी

Question ID : 9895807117
Chosen Option : 2

Q10 दिए गए वाक्य में रेखांकित खंड को प्रतिस्थापित करने के लिए उपयुक्त विकल्प का चयन करें।

आकाश में बादल घिर आए।

Ans

- 1. वारिनिधि
- 2. वनज
- 3. मेघ
- 4. पयोधि

Question ID : 9895807102
Chosen Option : 3

Q11 दिए गए वाक्य का वह भाग ज्ञात करें जिसमें कोई त्रुटि है।

कर्मभीरु मनुष्य काम करने को डरता है और काम को देखकर भयभीत होता है।

- Ans
- 1. काम करने को डरता है
 - 2. और काम को देखकर
 - 3. भयभीत होता है।
 - 4. कर्मभीरु मनुष्य

Question ID : 9895807099
Chosen Option : 1

Q12 'जैसा उचित हो वैसा' के लिए एक शब्द होगा-

- Ans
- 1. यथोचित
 - 2. कदाचित
 - 3. किंचित
 - 4. अनुचित

Question ID : 9895807121
Chosen Option : 2

Comprehension:

निम्नलिखित गद्यांश के रिक्त स्थानों की पूर्ति गद्यांश के नीचे दिए गए प्रश्नों के अनुसार कीजिए-

भारतीय _____ (1) जड़ एवं रुढ़िग्रस्त नहीं है। वह जीवन्त है, बुद्धिपरक है। वह वसुधैव कुटुम्बकम् के आदर्श में पूरा विश्वास करती है और पूरे _____ (2) को एक ही परिवार के रूप में मानती है। उसे हम मानवता के मंदिर की अखंड ज्योति कह सकते हैं। भारतीय संस्कृति की विशेषताएं इस प्रकार हैं - अंत से अनन्त की ओर जाना, _____ (3) से प्रकाश की ओर जाना, भेद से अभेद की ओर जाना, कीचड़ से _____ (4) की ओर जाना, विरोध से विवेक की ओर जाना और अव्यवस्था से _____ (5) की ओर जाना है।

SubQuestion No : 13

Q13 गद्यांश में संकेतित रिक्त स्थान (1) के लिए उपयुक्त शब्द होगा।

- Ans
- 1. परिवार
 - 2. भाषा
 - 3. संस्कृति
 - 4. समाज

Question ID : 9895807110
Chosen Option : 3

Comprehension:

निम्नलिखित गद्यांश के रिक्त स्थानों की पूर्ति गद्यांश के नीचे दिए गए प्रश्नों के अनुसार कीजिए-

भारतीय _____ (1) जड़ एवं रुढ़िग्रस्त नहीं है। वह जीवन्त है, बुद्धिपरक है। वह वसुधैव कुटुम्बकम् के आदर्श में पूरा विश्वास करती है और पूरे _____ (2) को एक ही परिवार के रूप में मानती है। उसे हम मानवता के मंदिर की अखंड ज्योति कह सकते हैं। भारतीय संस्कृति की विशेषताएं इस प्रकार हैं - अंत से अनन्त की ओर जाना, _____ (3) से प्रकाश की ओर जाना, भेद से अभेद की ओर जाना, कीचड़ से _____ (4) की ओर जाना, विरोध से विवेक की ओर जाना और अव्यवस्था से _____ (5) की ओर जाना है।

SubQuestion No : 14

Q14 गद्यांश में संकेतित रिक्त स्थान (2) के लिए उपयुक्त शब्द होगा।

- Ans
- 1. संसार
 - 2. समाज
 - 3. धर्म
 - 4. देश

Question ID : 9895807111
Chosen Option : 2

Comprehension:

निम्नलिखित गद्यांश के रिक्त स्थानों की पूर्ति गद्यांश के नीचे दिए गए प्रश्नों के अनुसार कीजिए-

भारतीय _____ (1) जड़ एवं रुढ़िग्रस्त नहीं है। वह जीवन्त है, बुद्धिपरक है। वह वसुधैव कुटुम्बकम् के आदर्श में पूरा विश्वास करती है और पूरे _____ (2) को एक ही परिवार के रूप में मानती है। उसे हम मानवता के मंदिर की अखंड ज्योति कह सकते हैं। भारतीय संस्कृति की विशेषताएं इस प्रकार हैं - अंत से अनन्त की ओर जाना, _____ (3) से प्रकाश की ओर जाना, भेद से अभेद की ओर जाना, कीचड़ से _____ (4) की ओर जाना, विरोध से विवेक की ओर जाना और अव्यवस्था से _____ (5) की ओर जाना है।

SubQuestion No : 15

Q15 गद्यांश में संकेतित रिक्त स्थान (3) के लिए उपयुक्त शब्द होगा।

- Ans**
- 1. उजाले
 - 2. समानता
 - 3. अन्धकार
 - 4. आँधी

Question ID : 9895807112
Chosen Option : 3

Comprehension:

निम्नलिखित गद्यांश के रिक्त स्थानों की पूर्ति गद्यांश के नीचे दिए गए प्रश्नों के अनुसार कीजिए-

भारतीय _____ (1) जड़ एवं रुढ़िग्रस्त नहीं है। वह जीवन्त है, बुद्धिपरक है। वह वसुधैव कुटुम्बकम् के आदर्श में पूरा विश्वास करती है और पूरे _____ (2) को एक ही परिवार के रूप में मानती है। उसे हम मानवता के मंदिर की अखंड ज्योति कह सकते हैं। भारतीय संस्कृति की विशेषताएं इस प्रकार हैं - अंत से अनन्त की ओर जाना, _____ (3) से प्रकाश की ओर जाना, भेद से अभेद की ओर जाना, कीचड़ से _____ (4) की ओर जाना, विरोध से विवेक की ओर जाना और अव्यवस्था से _____ (5) की ओर जाना है।

SubQuestion No : 16

Q16 गद्यांश में संकेतित रिक्त स्थान (4) के लिए उपयुक्त शब्द होगा।

- Ans**
- 1. घर

2. कमल

3. मंदिर

4. पानी

Question ID : 9895807113

Chosen Option : 2

Comprehension:

निम्नलिखित गद्यांश के रिक्त स्थानों की पूर्ति गद्यांश के नीचे दिए गए प्रश्नों के अनुसार कीजिए-

भारतीय _____ (1) जड़ एवं रुढ़िग्रस्त नहीं है। वह जीवन्त है, बुद्धिपरक है। वह वसुधैव कुटुम्बकम् के आदर्श में पूरा विश्वास करती है और पूरे _____ (2) को एक ही परिवार के रूप में मानती है। उसे हम मानवता के मंदिर की अखंड ज्योति कह सकते हैं। भारतीय संस्कृति की विशेषताएं इस प्रकार हैं - अंत से अनन्त की ओर जाना, _____ (3) से प्रकाश की ओर जाना, भेद से अभेद की ओर जाना, कीचड़ से _____ (4) की ओर जाना, विरोध से विवेक की ओर जाना और अव्यवस्था से _____ (5) की ओर जाना है।

SubQuestion No : 17

Q17 गद्यांश में संकेतित रिक्त स्थान (5) के लिए उपयुक्त शब्द होगा।

Ans 1. प्रकाश

2. व्यवस्था

3. उजाला

4. देश

Question ID : 9895807114

Chosen Option : 1

Q18 दिए गए वाक्य का वह भाग ज्ञात करें जिसमें कोई त्रुटि है।

मानव-जीवन पर कितनी संभावनाएँ छिपी हैं, इसकी कोई सीमा नहीं है।

Ans 1. कितनी संभावनाएँ छिपी हैं,

2. इसकी कोई

3. सीमा नहीं है।

4. मानव-जीवन पर

Question ID : 9895807100

Chosen Option : 3

Q19 दिए गए वाक्य में रेखांकित खंड को प्रतिस्थापित करने के लिए उपयुक्त विकल्प का चयन करें।

सिंहनी अपने शिशु को शिकार करना सिखा रही है।

- Ans
- 1. शावक
 - 2. आखटेक
 - 3. धावक
 - 4. श्वान

Question ID : 9895807103
Chosen Option : 4

Q20 रिक्त स्थान को भरने के लिए उपयुक्त शब्द का चयन करें।

लालकिला एक _____ इमारत है।

- Ans
- 1. काल्पनिक
 - 2. ऐतिहासिक
 - 3. पौराणिक
 - 4. सामाजिक

Question ID : 9895807108
Chosen Option : 2

Q21 'आँखों से गिरना' मुहावरे का अर्थ है-

- Ans
- 1. ध्यान से हट जाना
 - 2. बहुत प्यारा होना
 - 3. आदरभाव घट जाना
 - 4. निगरानी करना

Question ID : 9895807119
Chosen Option : 3

Q22 सही वर्तनी वाले शब्द का चयन करें।

- Ans
- 1. पूज्यनीय
 - 2. पुज्यनीय
 - 3. पुज्य
 - 4. पूज्य

Question ID : 9895807123
Chosen Option : 4

Q23

रिक्त स्थान को भरने के लिए उपयुक्त शब्द का चयन करें।

नवरात्रों में लोग फलाहार _____ हैं।

- Ans
- 1. करते
 - 2. चबाते
 - 3. पीते
 - 4. देखते

Question ID : 9895807105
Chosen Option : 1

Q24 'संधि' का विलोम शब्द चयन करें।

- Ans
- 1. विग्रह
 - 2. क्रोध
 - 3. मेल
 - 4. समास

Question ID : 9895807116
Chosen Option : 3

Q25 रिक्त स्थान को भरने के लिए उपयुक्त शब्द का चयन करें।

वह _____ है, इसीलिए अकेले ही जीवन बिता रही है।

- Ans
- 1. सुहागन
 - 2. विधुर
 - 3. विधवा
 - 4. पत्नी

Question ID : 9895807106
Chosen Option : 3

Constable (GD) in CAPFs, NIA, SSF and Rifleman (GD) in Assam Rifles Examination, 2018

Roll No. :	
Registration No.	
Name :	
Exam Venue :	
Exam Time :	12:30 PM - 2:00 PM
Exam Date :	08/03/2019

Section : General Section

Q.1 निम्नलिखित में से कौन सी उत्तर आकृति दी गई आकृति को पूरा करेगी?

प्रश्न आकृति:



Ans

1.
2.
3.
4.

Question ID : 9895808888
Chosen Option : 4

Q.2 उस विकल्प का चयन करें जो तीसरे पद से उसी तरह संबंधित है जिस प्रकार दूसरा पद पहले पद से संबंधित है।

RA : IZ :: SQ : ?

- Ans
1. XC
2. OT
3. RS
4. HJ

Question ID : 9895808873
Chosen Option : 4

Q.3 चार शब्द दिए गए हैं, जिनमें से तीन किसी तरह से समान हैं, जबकि एक अलग है। असंगत शब्द का चयन करें।

- Ans
1. डेसीमीटर
2. किलोमीटर
3. एम्मीटर

4. मिलीमीटर

Question ID : 9895808870

Chosen Option : 3

Q.4 एक कार प्रदर्शनी में सात अलग अलग कंपनियों की सात कारें- कार01, कार02, कार03, कार04, कार05, कार06, कार07, उत्तर दिशा की तरफ एक पंक्ति में प्रदर्शित हैं।

- कार01, कार07 के तुरंत दाएं में है।
- कार07, कार03 के दाएं से चौथे स्थान पर है।
- कार04, कार02 और कार06 के बीच में है।
- कार03, जो कार02 के बाएं से तीसरे स्थान पर है, वह एक छोर पर है।

निम्न में से कार05 का सही स्थान कौन-सा है?

Ans

- कार01 के तुरंत दाएं में
- कार06 के तुरंत बाएं में
- कार02 और कार07 के बीच में
- कार06 और कार07 के बीच में

Question ID : 9895808876

Chosen Option : 1

Q.5 उस विकल्प का चयन करें जो तीसरे पद से उसी तरह संबंधित है जिस प्रकार दूसरा पद पहले पद से संबंधित है।

57 : 6 :: 97 : ?

Ans

- 8
- 5
- 7
- 9

Question ID : 9895808883

Chosen Option : 1

Q.6 दिए गए विकल्पों में से लुप्त संख्या ज्ञात करें।

756 534 666	879 722 ?
-------------------	-----------------

Ans

- 571
- 482
- 562
- 471

Question ID : 9895808885

Chosen Option : 4

Q.7 सात बच्चों A, B, C, D, E, F और G एक पंक्ति में खड़े हैं। G, D के बाएं और B के दाएं हैं। A, C के दाएं हैं। A और D के बीच एक बच्चा है। F, G के दाएं से दुसरे स्थान पर है। D और F के बीच दो बच्चे हैं।

बिल्कुल दाएं कौन है?

Ans

- B

2. G

3. E

4. F

Question ID : 9895808877
Chosen Option : 3

Q.8 उस विकल्प का चयन करें जो सही रूप में रिक्त स्थान की पूर्ति करते हुए श्रृंखला को पूरा करें।

12, 26, 54, 110, 222, _____

Ans 1. 444

2. 446

3. 452

4. 423

Question ID : 9895808882
Chosen Option : 2

Q.9 चार विकल्प दिए गए हैं, जिनमें से तीन किसी तरह से समान हैं, जबकि एक अलग है। असंगत विकल्प का चयन करें।

Ans 1. 9 - 30

2. 7 - 24

3. 10 - 33

4. 8 - 19

Question ID : 9895808884
Chosen Option : 4

Q.1 पुरुषों की एक पंक्ति में, मनीष दाईं ओर से 30 वें स्थान पर है और कवित बाईं ओर से 20 वें स्थान पर। जब वे अपना स्थान बदल लेते हैं, तो मनीष दाईं ओर से 35 वें स्थान पर हो जाता है। उस पंक्ति में पुरुषों की कुल संख्या कितनी है?

Ans 1. 45

2. 34

3. 54

4. 44

Question ID : 9895808878
Chosen Option : 3

Q.1 नीचे दिए गए कथनों के बाद दो निष्कर्ष I और II दिए गए हैं। यह मानते हुए कि कथनों में दी गई जानकारी सत्य है, भले ही वह सर्वज्ञात तथ्यों से भिन्न प्रतीत होती हो और यह निर्णय करें कि कौन सा / से निष्कर्ष तार्किक और निश्चित रूप से कथन दी गई जानकारी का अनुसरण करता है / करते हैं।

कथन:

- I. सभी कारें, शेर हैं।
- II. कुछ बच्चे, शेर हैं।

निष्कर्ष:

- I. कुछ कारें, बच्चे हैं।
- II. कुछ बच्चे, कारें हैं।

Ans 1. या तो निष्कर्ष I या II अनुसरण करता है।

2. केवल निष्कर्ष । अनुसरण करता है।
3. केवल निष्कर्ष ॥ अनुसरण करता है।
4. न तो निष्कर्ष । न ही ॥ अनुसरण करता है।

Question ID : 9895808880
Chosen Option : 4

Q.1 ₂ उस विकल्प आकृति का चयन करें, जिसमें प्रश्न आकृति छिपी हुई / अंतर्निहित है।

प्रश्न आकृति:



Ans

- 1.
- 2.
- 3.
- 4.

Question ID : 9895808889
Chosen Option : 2

Q.1 ₃ उस विकल्प का चयन करें जो सही रूप में रिक्त स्थान की पूर्ति करते हुए श्रृंखला को पूरा करें।

RQS, SOQ, TMO, _____

Ans

1. ULP
2. SMN
3. XCV
4. UKM

Question ID : 9895808868
Chosen Option : 4

Q.1 ₄ नीचे दिए गए कथनों के बाद दो निष्कर्ष । और ॥ दिए गए हैं। यह मानते हुए कि कथनों में दी गई जानकारी सत्य है, भले ही वह सर्वज्ञात तथ्यों से भिन्न प्रतीत होती हो और यह निर्णय करें कि कौन सा / से निष्कर्ष तार्किक और निश्चित रूप से कथन में दी गई जानकारी का अनुसरण करता है / करते हैं।

कथन:

- I. सभी तने, फूल हैं।
- II. कुछ फूल, पेड़ हैं।
- III. कुछ पेड़, पत्तियाँ हैं।

निष्कर्ष:

- I. कुछ तने पेड़ हैं।
- II. कुछ फूल, पत्तियाँ हैं।

Ans

1. I और II दोनों अनुसरण करते हैं

✓ 2. न तो । और न ही ॥ अनुसरण करता है

✗ 3. केवल ॥ अनुसरण करता है

✗ 4. केवल । अनुसरण करता है

Question ID : 9895808879

Chosen Option : 2

Q.1 चार अक्षर समूह दिए गए हैं, जिनमें से तीन किसी तरह से समान हैं, जबकि एक अलग है। असंगत अक्षर समूह का चयन करें।

Ans ✓ 1. LJKK

✗ 2. STUO

✗ 3. BCIE

✗ 4. KLOI

Question ID : 9895808869

Chosen Option : 1

Q.1 उस विकल्प का चयन करें जो दर्पण के बायीं ओर रखे जाने पर दि गई आकृति की दर्पण छवि से सर्वाधिक मेल खाता है।

6

दर्पण आकृति:



Ans

✗ 1. BK

✓ 2. KB

✗ 3. KB

✗ 4. KB

Question ID : 9895808890

Chosen Option : 2

Q.1 एक निश्चित कूट में, SAMOA को QZMPC के रूप में कूटबद्ध किया जाता है। उस कोड में GAMER को कैसे कूटबद्ध किया जाता है?

Ans ✗ 1. EZMFU

✗ 2. EZMTF

✗ 3. EZTMF

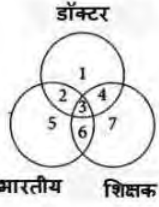
✓ 4. EZMFT

Question ID : 9895808874

Chosen Option : 4

Q.1
8

निम्नलिखित आरेख में, तीन वृत्त हैं, आरेख का ध्यानपूर्वक अध्ययन करें और दिए गए प्रश्नों के उत्तर दें।



उन शिक्षकों का पता लगाएं जो डॉक्टर हैं और भारतीय नहीं हैं।

- Ans
1. 7
2. 4
3. 5
4. 2

Question ID : 9895808892

Chosen Option : 2

Q.1 उस विकल्प का चयन करें जो तीसरे पद से उसी तरह संबंधित है जिस प्रकार दूसरा पद पहले पद से संबंधित है।

लकड़ी : बढ़ई :: लोहा : _____

- Ans
1. किसान
2. दर्जी
3. सुनार
4. लोहार

Question ID : 9895808871

Chosen Option : 4

Q.2 उस विकल्प का चयन करें जो सही रूप में रिक्त स्थान की पूर्ति करते हुए श्रृंखला को पूरा करें।

35, 42, 33, 40, 31, 38, _____

- Ans
1. 29
2. 35
3. 31
4. 33

Question ID : 9895808881

Chosen Option : 1

Q.2 यदि 'U' का अर्थ '-', 'W' का अर्थ '+', 'T' का अर्थ '×', और 'V' का अर्थ '÷', है, तो:

33 T 77 U 11 T 1 = ?

- Ans
1. 101
2. 200
3. 110
4. 100

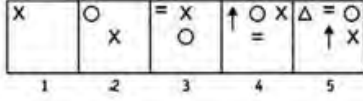
Question ID : 9895808886

Chosen Option : 4





Q.2
2

वह विकल्प का चयन करें जो दी गई आकृति श्रृंखला को पूरा करता है।

प्रश्न आकृति:



Ans

1. 
2. 
3. 
4. 

Question ID : 9895808887





Chosen Option : 1

Q.2 नीचे प्रश्न आकृति में दर्शाये गए तरीके से एक कागज को मोड़ा गया और काटा गया है। इस कागज को खोलने पर दी गयी उत्तर आकृतियों में से कौन सी आकृति दिखाई देगी?

प्रश्न आकृति:



Ans

1. 
2. 
3. 
4. 

Question ID : 9895808891

Chosen Option : 1

Q.2 दिए गए विकल्पों में से संबंधित शब्द युगल का चयन करें।

उपन्यास: उपन्यासकार :: _____ : _____

Ans

1. संगीत : नृत्य
2. पुस्तक : लेखक
3. प्रकाशन : स्तंभकार
4. टेलीविजन : पत्रकार

Question ID : 9895808872

Chosen Option : 2

Q.2
5 यदि SMILEY को 41.5 के रूप में और CRY को 23 के रूप में लिखते हैं, तो LAPPY को कैसे लिखा जाएगा?

- Ans
- 1. 35
 - 2. 32
 - 3. 42
 - 4. 30

Question ID : 9895808875
Chosen Option : 1

Q.2
6 डेंगू के समय रक्तसाव _____ की संख्या में कमी के कारण होता है।

- Ans
- 1. लाला रुधिर कणिकाओं
 - 2. प्लेटलेट्स
 - 3. श्वेत रुधिर कणिकाओं
 - 4. प्लाज़्मा

Question ID : 9895808934
Chosen Option : 2

Q.2
7 प्रसिद्ध महाकाव्य 'पद्मावत' किसने लिखा?

- Ans
- 1. मलिक मुहम्मद जायसी
 - 2. अमीर खुसरो
 - 3. अबुल फज़ल
 - 4. ख्वाज़ा मुइनुद्दीन चिश्ती

Question ID : 9895808925
Chosen Option : 1

Q.2
8 चाय का सबसे बड़ा उत्पादक देश निम्न में से कौन सा है?

- Ans
- 1. भारत
 - 2. तुर्की
 - 3. चीन
 - 4. ब्राज़ील

Question ID : 9895808938
Chosen Option : 4

Q.2
9 NSSO का पूर्णरूप क्या है?

- Ans
- 1. नेशनल सेम्पल सर्वे संगठन
 - 2. नेशनल सेल सर्विस संगठन
 - 3. नेशनल सोशल सर्विस संगठन
 - 4. नेशनल स्टैटिस्टिकल सर्वे संगठन

Question ID : 9895808926

Chosen Option : 1

Q.3 राजस्थान के जयपुर क्षेत्र में कौन सा किला अपने कलात्मक हिंदू शैली के तत्वों के लिए जाना जाता है और यह विश्व धरोहर स्थल भी है?

- Ans
- 1. चित्तौड़गढ़ का किला
 - 2. ग्वालियर का किला
 - 3. मेहरानगढ़ का किला
 - 4. अंबर का किला

Question ID : 9895808920
Chosen Option : 1

Q.3 निम्न में से किस देश की सकल राष्ट्रीय आय (GNI) की स्थिति भारत की तुलना में बेहतर है?

- Ans
- 1. बांग्लादेश
 - 2. पाकिस्तान
 - 3. श्रीलंका
 - 4. नेपाल

Question ID : 9895808928
Chosen Option : 3

Q.3 राज्यसभा का अध्यक्ष कौन होता है?

- Ans
- 1. प्रधानमंत्री
 - 2. नेता प्रतिपक्ष
 - 3. उप राष्ट्रपति
 - 4. राष्ट्रपति

Question ID : 9895808929
Chosen Option : 3

Q.3 भारत की सबसे लंबी उन्नत (एलिवेटेड) रोड _____ में स्थित है।

- Ans
- 1. गाज़ियाबाद
 - 2. वाराणसी
 - 3. आगरा
 - 4. लखनऊ

Question ID : 9895808924
Chosen Option : 4

Q.3 दुनिया की पहली भूमिगत रेलवे प्रणाली _____ में शुरू की गई थी।

- Ans
- 1. वाशिंगटन
 - 2. लंदन
 - 3. मास्को

4. पेरिस

Question ID : 9895808942
Chosen Option : 2

Q.3
5 वर्तमान विश्व शतरंज चैम्पियनशिप 2018 का खिताब किसके पास है?

- Ans
- 1. विश्वनाथन आनंद
 - 2. मैग्नस कार्लसन
 - 3. सर्गेई कार्जकिन
 - 4. फाबियानो कारुआना

Question ID : 9895808921
Chosen Option : 1

Q.3
6 निम्न में से कौन सी एक खरीफ की फसल नहीं है?

- Ans
- 1. बाजरा
 - 2. ज्वार
 - 3. मक्का
 - 4. जौ

Question ID : 9895808937
Chosen Option : 4

Q.3
7 22 दिसंबर को _____ के रूप में मनाया जाता है।

- Ans
- 1. राष्ट्रीय विज्ञान दिवस
 - 2. राष्ट्रीय गणित दिवस
 - 3. राष्ट्रीय तकनीकी दिवस
 - 4. राष्ट्रीय साक्षरता दिवस

Question ID : 9895808923
Chosen Option : 1

Q.3
8 द्वितीय गोलमेज सम्मेलन _____ में हुआ।

- Ans
- 1. दिसंबर 1930
 - 2. दिसंबर 1929
 - 3. दिसंबर 1931
 - 4. दिसंबर 1932

Question ID : 9895808941
Chosen Option : 4

Q.3
9 पालक में प्राकृतिक उत्पाद के रूप में _____ एसिड का असामान्य रूप से उच्च प्रतिशत होता है।

- Ans
- 1. टारटरिक अम्ल

2. साइट्रिक अम्ल
3. दुग्धाम्ल
4. ऑक्सालिक अम्ल

Question ID : 9895808932
Chosen Option : 4

Q.4
0 भारत के संविधान में आरंभ के समय कितने अनुच्छेद थे?

- Ans 1. 394
2. 395
3. 392
4. 393

Question ID : 9895808930
Chosen Option : 2

Q.4
1 निम्न में से कौन सी आहार श्रृंखला सही है?

- Ans 1. घास-चूहा-सांप-बाज़
2. घास-हिरन-सांप-शेर
3. घास-खरगोश-सांप-शेर
4. घास-खरगोश-सांप-बाज़-शेर

Question ID : 9895808936
Chosen Option : 4

Q.4
2 दशहरा के समय दुर्गा पूजा के लिए पश्चिम बंगाल में किया जाता नृत्य _____ है।

- Ans 1. धुनाची
2. तेरा ताली
3. कोलाट्टम
4. किककली

Question ID : 9895808919
Chosen Option : 3

Q.4
3 अनुच्छेद 21A _____ संबंधित है।

- Ans 1. शोषण के विरुद्ध अधिकार से
2. छह से चौदह वर्ष की आयु के सभी बच्चों को मुफ्त और अनिवार्य शिक्षा का अधिकार से
3. संवैधानिक उपचार से
4. धार्मिक स्वतंत्रता के अधिकार से

Question ID : 9895808931
Chosen Option : 2

Q.4
4 अंडे को सिरके के विलयन में 20-24 घंटे तक रखने पर क्या होगा?

Ans

- 1. अंडे का आवरण घुल जाएगा
- 2. अंडे का आवरण टूट जाएगा
- 3. अंडे का आवरण सिकुड़ जाएगा
- 4. अंडे के आवरण का आकार बढ़ जाएगा

Question ID : 9895808935
Chosen Option : 4

Q.4
5 भूमि से घिरा हुआ भारत का सबसे बड़ा बंदरगाह निम्न में से कौन सा है?

Ans

- 1. तूतीकोरिन
- 2. विशाखापत्तनम
- 3. मारमुगाओ
- 4. कांदला

Question ID : 9895808939
Chosen Option : 2

Q.4
6 यथा नवंबर 2018, मैरी कॉम विश्व चैंपियनशिप में _____ स्वर्ण पदक जीतने वाली पहली महिला मुक्केबाज हैं।

Ans

- 1. 8
- 2. 9
- 3. 7
- 4. 6

Question ID : 9895808922
Chosen Option : 4

Q.4
7 भारत में 12वीं पंचवर्षीय योजना की अवधि निम्न _____ थी।

Ans

- 1. 2013 से 2018
- 2. 2012 से 2017
- 3. 2010 से 2015
- 4. 2011 से 2016

Question ID : 9895808927
Chosen Option : 2

Q.4
8 जल संचयन का मुख्य उद्देश्य क्या है?

Ans

- 1. बांध बनाना
- 2. भूतल पर जल का संरक्षण
- 3. मृदा अपरदन को रोकना
- 4. भूगर्भ के जल का पुनर्संचयन

Question ID : 9895808933
Chosen Option : 1

Q.4 मयूर नृत्य या पीकोक डांस किस राज्य के ब्रज क्षेत्र से संबंध रखता है?

- Ans
- 1. आंध्रप्रदेश
 - 2. ओडीशा
 - 3. उत्तर प्रदेश
 - 4. बिहार

Question ID : 9895808918
Chosen Option : 2

Q.5 फतेहपुर सीकरी में बुलंद दरवाजा किसने बनवाया?

- Ans
- 1. हुमायूं
 - 2. अकबर
 - 3. शाहजहाँ
 - 4. जहांगीर

Question ID : 9895808940
Chosen Option : 2

Q.5 एक समचतुर्भुज का क्षेत्रफल 175 cm^2 है। एक विकर्ण की लंबाई 25 cm है। दूसरे विकर्ण की लंबाई क्या है?

- Ans
- 1. 10 cm
 - 2. 12 cm
 - 3. 14 cm
 - 4. 15 cm

Question ID : 9895809063
Chosen Option : 4

Q.5 निर्देश: निम्नलिखित प्रश्न दिए गए पाई चार्ट पर आधारित हैं। पाई चार्ट विभिन्न मदों पर श्री सचिन के मासिक खर्च को दर्शाता है। चार्ट का अध्ययन करें और दिए गए प्रश्नों के उत्तर दें।



यदि श्री सचिन की मासिक आय ₹ 48000 हो तो किराए पर 2 वर्षों का व्यय _____ होगा।

- Ans
- 1. ₹ 308200
 - 2. ₹ 307200

3. ₹ 148000

4. ₹ 153600

Question ID : 9895809065

Chosen Option : 4

Q.5
3 एक ट्रेन 36 सेकंड में एक स्टेशन प्लेटफार्म और 20 सेकंड में प्लेटफार्म पर खड़े एक आदमी को पार करती है। यदि ट्रेन की चाल 72 km/hr है। ट्रेन की लंबाई क्या है?

Ans

1. 120 मीटर

2. 320 मीटर

3. 240 मीटर

4. 360 मीटर

Question ID : 9895809061

Chosen Option : 2

Q.5
4 एक स्कूल के वार्षिक समारोह में लड़कों और लड़कियों का अनुपात 1 : 2 था, लेकिन जब 10 लड़के और 10 लड़कियां चली गयीं, तो अनुपात 2 : 5 हो गया। मूल रूप से वार्षिक समारोह में कुल कितने छात्र थे?

Ans

1. 96

2. 90

3. 84

4. 102

Question ID : 9895809054

Chosen Option : 2

Q.5
5 निर्देश: निम्नलिखित प्रश्न दिए गए पाई चार्ट पर आधारित हैं। पाई चार्ट विभिन्न मदों पर श्री सचिन के मासिक खर्च को दर्शाता है। चार्ट का अध्ययन करें और दिए गए प्रश्नों के उत्तर दें।



दवाई पर खर्च, कुल खर्च का लगभग कितना प्रतिशत है?

Ans

1. 12.5%

2. 13.33%

3. 36%

4. 14%

Question ID : 9895809067
Chosen Option : 2

Q.5
6 सरलीकृत करें:

$$4 \times 12 + 699 = ?$$

Ans 1. 655

2. 747

3. 670

4. 630

Question ID : 9895809045
Chosen Option : 2

Q.5
7 ₹ 72 में एक वस्तु को बेचने पर 10% की हानि होती है। 5% का लाभ पाने के लिए उसे इसे कितने में बेचना चाहिए?

Ans 1. ₹ 84

2. ₹ 87

3. ₹ 80

4. ₹ 85

Question ID : 9895809052
Chosen Option : 1

Q.5
8 सबसे छोटी पूर्ण घन संख्या कौन सी है जो 5, 10 और 15 से विभाज्य है?

Ans 1. 21000

2. 27000

3. 24000

4. 64000

Question ID : 9895809043
Chosen Option : 2

Q.5
9 यदि एक लड़का अपने घर से 8 km/hr की चाल से स्कूल जाता है तो उसे 30 मिनट की देरी होती है और यदि वह 12 km/hr की चाल से जाता है तो समय पर पहुंच जाता है। उसके घर से उसके स्कूल की दूरी _____ है।

Ans 1. 12 km

2. 18 km

3. 10 km

4. 15 km

Question ID : 9895809060

Chosen Option : 1

Q.6
0 किसी वस्तु को एक निश्चित मूल्य पर बेचने से एक व्यक्ति को 20% का लाभ होता है। यदि वह इसे क्रय मूल्य के दोगुने दाम पर बेचता है, तो पुराने विक्रय मूल्य का प्रतिशत लाभ क्या होगा?

Ans

1. 120%

2. $66\frac{2}{3}\%$

3. 100%

4. 40%

Question ID : 9895809051

Chosen Option : 2

Q.6
1 11, 9, 18, 35, 42, 26, 4, 19 और 31 की सीमा क्या है?

Ans

1. 26

2. 42

3. 38

4. 4

Question ID : 9895809049

Chosen Option : 2

Q.6
2 8 cm और 10 cm विज्याएँ और 21 cm ऊँचाई वाले एक शंकु के टिन्क का आयतन क्या है? ($\pi = \frac{22}{7}$ लीजिए)

Ans

1. 4816 cm^3

2. 4328 cm^3

3. 6112 cm^3

4. 5368 cm^3

Question ID : 9895809064

Chosen Option : 1

Q.6
3 एक निश्चित राशि पर 10% वार्षिक दर से 2 वर्षों में चक्रवृद्धि और साधारण ब्याज के बीच का अंतर ₹ 42 है, जबकि ब्याज वार्षिक संयोजित होता है। राशि क्या है?

Ans

1. ₹ 5200

2. ₹ 2100

3. ₹ 8400

4. ₹ 4200

Question ID : 9895809057

Chosen Option : 4

Q.6
4 यदि A किसी काम को 30 दिनों में पूरा कर सकता है और B उसी काम को 20 दिनों में पूरा कर सकता है, तो A और B मिलकर उसी काम को कितने दिनों में पूरा करेंगे?

Ans

- ✓ 1. 12 दिन
 ✗ 2. 15 दिन
 ✗ 3. 20 दिन
 ✗ 4. 18 दिन

Question ID : 9895809058
 Chosen Option : 1

Q.6
5 10 से 20 तक सम संख्याओं का औसत _____ है।

Ans

- ✗ 1. 16
 ✓ 2. 15
 ✗ 3. 14
 ✗ 4. 12

Question ID : 9895809046
 Chosen Option : 2

Q.6
6 एक आयताकार क्षेत्र की लंबाई 1200 m और चौड़ाई 500 m है। ₹ 25 per m की दर से इसके विकर्ण के साथ एक सड़क बनाई जानी है। सड़क बनाने की लागत क्या है?

Ans

- ✗ 1. ₹ 25600
 ✗ 2. ₹ 28400
 ✓ 3. ₹ 32500
 ✗ 4. ₹ 35000

Question ID : 9895809062
 Chosen Option : 3

Q.6
7 40 छात्रों द्वारा प्राप्त किए गए अंकों का औसत 160 था। बाद में पता चला कि एक छात्र के 165 अंक को गलती से 125 लिखा गया था। सही औसत _____ है।

Ans

- ✓ 1. 161
 ✗ 2. 162
 ✗ 3. 160
 ✗ 4. 163

Question ID : 9895809047
 Chosen Option : 1

Q.6
8 सरलीकृत करें:

$$999 + 111 \times 0.5 = ?$$

- Ans
- 1. 500
 - 2. 1110.5
 - 3. 1054.5
 - 4. 555

Question ID : 9895809044
Chosen Option : 3

Q.6
9 A, B, C और D के बीच क्रमशः 3 : 4 : 9 : 10 के अनुपात में एक धनराशि बांटी जाती है। यदि D का हिस्सा A के हिस्से से ₹ 3612 अधिक है तो A और D के पास कुल मिलाकर कितनी राशि है?

- Ans
- 1. ₹ 6568
 - 2. ₹ 6028
 - 3. ₹ 6708
 - 4. ₹ 6228

Question ID : 9895809055
Chosen Option : 3

Q.7
0 10 वर्षों में 5% प्रतिवर्ष साधारण ब्याज की दर से किस राशि का ब्याज ₹ 120 होगा (₹ में)?

- Ans
- 1. ₹ 360
 - 2. ₹ 350
 - 3. ₹ 240
 - 4. ₹ 280

Question ID : 9895809056
Chosen Option : 3

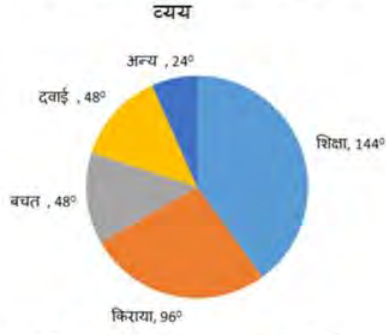
Q.7
1 एक विद्यालय में 468 विद्यार्थी हैं जिनमें लड़कों और लड़कियों की संख्या का अनुपात 5 : 4 है। लड़कों और लड़कियों की संख्या का अनुपात 1 : 1 करने के लिए कितनी ओर लड़कियों को विद्यालय में सम्मिलित होना चाहिए?

- Ans
- 1. 48
 - 2. 56
 - 3. 52
 - 4. 50

Question ID : 9895809053
Chosen Option : 3

Q.7
2

निर्देश: निम्नलिखित प्रश्न दिए गए पाई चार्ट पर आधारित हैं। पाई चार्ट विभिन्न मदों पर श्री सचिन के मासिक खर्च को दर्शाता है। चार्ट का अध्ययन करें और दिए गए प्रश्नों के उत्तर दें।



बचत एवं शिक्षा पर व्यय का अनुपात क्या होगा?

Ans

1. 1 : 1
2. 2 : 3
3. 1 : 3
4. 3 : 4

Question ID : 9895809066

Chosen Option : 3

Q.7
3 एक व्यापारी अपने माल को अंकित मूल्य के 10% छूट पर बेचता है। यदि माल का क्रय मूल्य ₹ 900 हो, तो 10% का लाभ प्राप्त करने के लिए उसे माल का अंकित मूल्य कितना रखना चाहिए?

Ans

1. ₹ 1175
2. ₹ 1250
3. ₹ 1100
4. ₹ 1275

Question ID : 9895809048

Chosen Option : 3

Q.7
4 किसी संख्या का 40 प्रतिशत 147.2 है। उसी संख्या का 25% _____ है।

Ans

1. 62
2. 61
3. 58
4. 92

Question ID : 9895809050

Chosen Option : 4

Q.7
5 एक दिन में 7 घंटे काम करने वाले 60 लड़के 18 दिनों में एक काम को कर सकते हैं। एक दिन में 9 घंटे काम करने वाले 28 लड़के उसी काम को कितने दिनों में करेंगे?

Ans

1. 20 दिन
2. 30 दिन
3. 25 दिन
4. 40 दिन

Question ID : 9895809059
Chosen Option : 2

Section : English Language

Q.1 Select the word which means the same as the group of words given.

Not connected with religious or spiritual matters.

- Ans 1. Secular
2. Veteran
3. Communal
4. Atheist

Question ID : 9895809193
Chosen Option : --

Q.2 Identify the segment in the sentence which contains the grammatical error from the given options.

Some people lose their eyesights because of a disease or injury.

- Ans 1. because of
2. disease or injury
3. their eyesights
4. Some people

Question ID : 9895809173
Chosen Option : --

Q.3 Select the most appropriate word to fill in the blank.

Tin cans, used for storing food, are made _____ electroplating tin onto iron.

- Ans 1. of
2. with
3. by
4. to

Question ID : 9895809179
Chosen Option : --

Q.4

Select the synonym of the given word.

VAGUE

- Ans
- 1. Precise
 - 2. Unclear
 - 3. Incomplete
 - 4. Definite

Question ID : 9895809186

Chosen Option : --

Q.5 Select the most appropriate option to substitute the underlined segment in the given sentence. If there is no need to substitute it, select No substitution required.

When a plastic comb is rubbed with dry hair, they acquired a static charge.

- Ans
- 1. No substitution required
 - 2. it acquired
 - 3. they acquire an
 - 4. it acquires a

Question ID : 9895809176

Chosen Option : --

Q.6 Select the meaning of the given idiom.

Fool's paradise

- Ans
- 1. foolish idea
 - 2. deceptive happiness
 - 3. unexpected gain
 - 4. imaginary idea

Question ID : 9895809190

Chosen Option : --

Q.7 Select the wrongly spelt word.

- Ans
- 1. Reception
 - 2. Recommend
 - 3. Ridicullous
 - 4. Representative

Question ID : 9895809195

Chosen Option : --

Q.8 Identify the segment in the sentence which contains the grammatical error from the given options.

Many Indian languages can be reading using the Braille system.

- Ans
- 1. using
 - 2. Many Indian

3. can be reading

4. the Braille

Question ID : 9895809174

Chosen Option : --

Q.9 Select the most appropriate option to substitute the underlined segment in the given sentence. If there is no need to substitute it, select No substitution required.

Scientific discoveries is often result of hard work by many people.

Ans 1. are resulted

2. is result

3. are often a result

4. No substitution required

Question ID : 9895809175

Chosen Option : --

Q.1 Select the word which means the same as the group of words given.

An animal that lives by killing and eating other animals

Ans 1. Predator

2. Amphibian

3. Biped

4. Quadruped

Question ID : 9895809192

Chosen Option : --

Q.1 Identify the segment in the sentence which contains the grammatical error from the given options.

1

The sense of sight is one of the most important senses gift to us.

Ans 1. The sense

2. most important

3. gift to us

4. is one of the

Question ID : 9895809172

Chosen Option : --

Q.1 Select the antonym of the given word.

2

TREACHEROUS

Ans 1. Faithful

2. Unfaithful

3. Disloyal

4. Deceitful

Question ID : 9895809188

Chosen Option : --

Q.1 Select the most appropriate word to fill in the blank.

3

The new textile policy lays great emphasis on stabilizing cotton prices to _____ the interest of cotton growers.

- Ans
- 1. improve
 - 2. diversify
 - 3. protect
 - 4. raise

Question ID : 9895809196

Chosen Option : --

Q.1 Select the most appropriate option to substitute the underlined segment in the given sentence. If there is no need to substitute it, select No substitution required.

4

Carrying an umbrella is not at all a good idea during thunderstorms.

- Ans
- 1. To carry the umbrella
 - 2. Carrying a umbrella
 - 3. No substitution required
 - 4. Carry umbrella

Question ID : 9895809177

Chosen Option : --

Comprehension:

In the following passage some words have been deleted. Fill in the blanks with the help of the alternatives given. Select the most appropriate option for each number.

Life of the people of the Amazon basin is slowly (1) _____. In the older days the (2) _____ of the forest could be reached only by (3) _____ the river. In 1970 the Trans Amazon highway (4) _____ all parts of the rainforest (5) _____.

SubQuestion No : 15

Q.1 Select the most appropriate option that will fill in the blank number 1

5

- Ans
- 1. steadying
 - 2. modifying
 - 3. simplifying
 - 4. changing

Question ID : 9895809181

Chosen Option : --

Comprehension:

In the following passage some words have been deleted. Fill in the blanks with the help of the alternatives given. Select the most appropriate option for each number.

Life of the people of the Amazon basin is slowly (1) _____. In the older days the (2) _____ of the forest could be reached only by (3) _____ the river. In 1970 the Trans Amazon highway (4) _____ all parts of the rainforest (5) _____.

SubQuestion No : 16

Q.1
6 Select the most appropriate option that will fill in the blank number 2

- Ans
- 1. thick
 - 2. core
 - 3. deep
 - 4. heart

Question ID : 9895809182

Chosen Option : --

Comprehension:

In the following passage some words have been deleted. Fill in the blanks with the help of the alternatives given. Select the most appropriate option for each number.

Life of the people of the Amazon basin is slowly (1) _____. In the older days the (2) _____ of the forest could be reached only by (3) _____ the river. In 1970 the Trans Amazon highway (4) _____ all parts of the rainforest (5) _____.

SubQuestion No : 17

Q.1
7 Select the most appropriate option that will fill in the blank number 3

- Ans
- 1. boating
 - 2. navigating
 - 3. swimming
 - 4. journeying

Question ID : 9895809183

Chosen Option : --

Comprehension:

In the following passage some words have been deleted. Fill in the blanks with the help of the alternatives given. Select the most appropriate option for each number.

Life of the people of the Amazon basin is slowly (1) _____. In the older days the (2) _____ of the forest could be reached only by (3) _____ the river. In 1970 the Trans Amazon highway (4) _____ all parts of the rainforest (5) _____.

SubQuestion No : 18

Q.1
8 Select the most appropriate option that will fill in the blank number 4

- Ans
- 1. make
 - 2. made
 - 3. is making
 - 4. was making

Question ID : 9895809184
Chosen Option : --

Comprehension:

In the following passage some words have been deleted. Fill in the blanks with the help of the alternatives given. Select the most appropriate option for each number.

Life of the people of the Amazon basin is slowly (1) _____. In the older days the (2) _____ of the forest could be reached only by (3) _____ the river. In 1970 the Trans Amazon highway (4) _____ all parts of the rainforest (5) _____.

SubQuestion No : 19

Q.1
9 Select the most appropriate option that will fill in the blank number 5

- Ans
- 1. accessible
 - 2. restricted
 - 3. possible
 - 4. operative

Question ID : 9895809185
Chosen Option : --

Q.2
0 Select the synonym of the given word.

PRECISE

- Ans
- 1. Ambiguous
 - 2. Inaccurate
 - 3. Accurate
 - 4. Erroneous

Question ID : 9895809187

Chosen Option : --

Q.2
1 Select the antonym of the given word.

REVEAL

- Ans
- 1. Show
 - 2. Praise
 - 3. Hide
 - 4. Disclose

Question ID : 9895809189

Chosen Option : --

Q.2
2 Select the most appropriate word to fill in the blank.

A major earthquake _____ in India on 8 October 2005 in Uri.

- Ans
- 1. occurs
 - 2. has been occurring
 - 3. occurred
 - 4. is occurring

Question ID : 9895809178

Chosen Option : --

Q.2
3 Select the most appropriate word to fill in the blank.

The great advantage of early rising is the good _____ it gives us to our day.

- Ans
- 1. sense
 - 2. kick
 - 3. start
 - 4. humour

Question ID : 9895809197

Chosen Option : --

Q.2
4 Select the meaning of the given idiom.

A man of spirit is

- Ans
- 1. A spiritual person
 - 2. A unique person
 - 3. A very talented man
 - 4. A very courageous man

Question ID : 9895809191

Chosen Option : --

Q.2
5 Select the wrongly spelt word.

- Ans
- 1. Suspicious
 - 2. Sustain
 - 3. Schedule
 - 4. Secretary

Question ID : 9895809194
Chosen Option : --

Section : Hindi Language

Q.1 दिए गए वाक्य में रेखांकित खंड को प्रतिस्थापित करने के लिए उपयुक्त विकल्प का चयन करें।

उसके दाँत मोती की तरह चमकते हैं ।

- Ans
- 1. मुक्ता
 - 2. हीरे
 - 3. माणिक
 - 4. मूँगे

Question ID : 9895807130
Chosen Option : 2

Q.2 सही वर्तनी वाले शब्द का चयन करें।

- Ans
- 1. आशीर्वाद
 - 2. अशिर्वाद
 - 3. अशिर्वाद
 - 4. आशिर्वाद

Question ID : 9895807149
Chosen Option : 1

Q.3 दिए गए वाक्य का वह भाग ज्ञात करें जिसमें कोई त्रुटि है।

पिछले डेढ़ दशक के दौरान बैंकिंग जगत में तेजी परिवर्तन हुए हैं।

- Ans
- 1. के दौरान
 - 2. बैंकिंग जगत में
 - 3. तेजी परिवर्तन हुए हैं।
 - 4. पिछले डेढ़ दशक

Question ID : 9895807126
Chosen Option : 3

Q.4 'आम' का पर्यायवाची शब्द है-

- Ans
- 1. अम्बर
 - 2. पिक

3. रसाल

4. फल

Question ID : 9895807144

Chosen Option : 3

Q.5 "जिसका कोई शत्रु न हो" के लिए एक शब्द है-

Ans 1. अल्पशत्रु

2. अज्ञातशत्रु

3. अज्ञातशत्रु

4. बहुशत्रु

Question ID : 9895807147

Chosen Option : 2

Q.6 दिए गए वाक्य का वह भाग ज्ञात करें जिसमें कोई त्रुटि है।

सिपाहियों ने अपराधी को कुत्तों का तरह घसीटा।

Ans 1. कुत्तों का तरह

2. अपराधी को

3. सिपाहियों ने

4. घसीटा।

Question ID : 9895807125

Chosen Option : 1

Q.7 रिक्त स्थान को भरने के लिए उपयुक्त शब्द का चयन करें।

जिस वाक्य में एक उद्देश्य _____ समीपिका क्रिया होती है उसे सरल वाक्य कहा जाता है।

Ans 1. यद्यपि

2. क्योंकि

3. और

4. इसलिए

Question ID : 9895807134

Chosen Option : 3

Comprehension:

निम्नलिखित गद्यांश के रिक्त स्थानों की पूर्ति गद्यांश के नीचे दिए गए प्रश्नों के अनुसार कीजिए-

जनता को राजनीतिक विषयों की शिक्षा तभी _____ (1) रूप से प्राप्त हो सकती है जबकि उसे विभिन्न प्रकार की विचारधाराओं को भली-भाँति समझने और उनमें _____ (2) करने का अवसर मिले। राज्य का कर्तव्य है कि वह जनता को ऐसी मौलिक शिक्षा प्रदान करे जिससे उसमें _____ (3) की क्षमता आ सके। इसमें _____ (4) शिक्षा का सबसे महत्वपूर्ण स्थान है। अगर हम साहस के साथ _____ (5) होकर अपने कर्तव्य का पालन करेंगे तो निःसन्देह हमारा भविष्य उज्ज्वल है।

SubQuestion No : 8

Q.8 गद्यांश में संकेतित रिक्त स्थान (1) के लिए उपयुक्त शब्द होगा।

- Ans
- 1. अनुचित
 - 2. समुचित
 - 3. सीमित
 - 4. विस्तृत

Question ID : 9895807136
Chosen Option : 4

Comprehension:

निम्नलिखित गद्यांश के रिक्त स्थानों की पूर्ति गद्यांश के नीचे दिए गए प्रश्नों के अनुसार कीजिए-

जनता को राजनीतिक विषयों की शिक्षा तभी _____ (1) रूप से प्राप्त हो सकती है जबकि उसे विभिन्न प्रकार की विचारधाराओं को भली-भाँति समझने और उनमें _____ (2) करने का अवसर मिले। राज्य का कर्तव्य है कि वह जनता को ऐसी मौलिक शिक्षा प्रदान करे जिससे उसमें _____ (3) की क्षमता आ सके। इसमें _____ (4) शिक्षा का सबसे महत्वपूर्ण स्थान है। अगर हम साहस के साथ _____ (5) होकर अपने कर्तव्य का पालन करेंगे तो निःसन्देह हमारा भविष्य उज्ज्वल है।

SubQuestion No : 9

Q.9 गद्यांश में संकेतित रिक्त स्थान (2) के लिए उपयुक्त शब्द होगा।

- Ans
- 1. प्रलाप
 - 2. निर्णय
 - 3. गर्जना

4. गुंजार

Question ID : 9895807137
Chosen Option : 2

Comprehension:

निम्नलिखित गद्यांश के रिक्त स्थानों की पूर्ति गद्यांश के नीचे दिए गए प्रश्नों के अनुसार कीजिए-

जनता को राजनीतिक विषयों की शिक्षा तभी _____ (1) रूप से प्राप्त हो सकती है जबकि उसे विभिन्न प्रकार की विचारधाराओं को भली-भाँति समझने और उनमें _____ (2) करने का अवसर मिले। राज्य का कर्तव्य है कि वह जनता को ऐसी मौलिक शिक्षा प्रदान करे जिससे उसमें _____ (3) की क्षमता आ सके। इसमें _____ (4) शिक्षा का सबसे महत्वपूर्ण स्थान है। अगर हम साहस के साथ _____ (5) होकर अपने कर्तव्य का पालन करेंगे तो निःसन्देह हमारा भविष्य उज्ज्वल है।

SubQuestion No : 10

Q.1
0 गद्यांश में संकेतित रिक्त स्थान (3) के लिए उपयुक्त शब्द होगा।

- Ans
- 1. पतन
 - 2. विस्मरण
 - 3. आत्मनिर्माण
 - 4. दुःसाहस

Question ID : 9895807138
Chosen Option : 3

Comprehension:

निम्नलिखित गद्यांश के रिक्त स्थानों की पूर्ति गद्यांश के नीचे दिए गए प्रश्नों के अनुसार कीजिए-

जनता को राजनीतिक विषयों की शिक्षा तभी _____ (1) रूप से प्राप्त हो सकती है जबकि उसे विभिन्न प्रकार की विचारधाराओं को भली-भाँति समझने और उनमें _____ (2) करने का अवसर मिले। राज्य का कर्तव्य है कि वह जनता को ऐसी मौलिक शिक्षा प्रदान करे जिससे उसमें _____ (3) की क्षमता आ सके। इसमें _____ (4) शिक्षा का सबसे महत्वपूर्ण स्थान है। अगर हम साहस के साथ _____ (5) होकर अपने कर्तव्य का पालन करेंगे तो निःसन्देह हमारा भविष्य उज्ज्वल है।

SubQuestion No : 11

Q.1
1 गद्यांश में संकेतित रिक्त स्थान (4) के लिए उपयुक्त शब्द होगा।

- Ans
- 1. नारी
 - 2. पारंपरिक
 - 3. धार्मिक
 - 4. नागरिक

Question ID : 9895807139
Chosen Option : 3

Comprehension:

निम्नलिखित गद्यांश के रिक्त स्थानों की पूर्ति गद्यांश के नीचे दिए गए प्रश्नों के अनुसार कीजिए-

जनता को राजनीतिक विषयों की शिक्षा तभी _____ (1) रूप से प्राप्त हो सकती है जबकि उसे विभिन्न प्रकार की विचारधाराओं को भली-भाँति समझने और उनमें _____ (2) करने का अवसर मिले। राज्य का कर्तव्य है कि वह जनता को ऐसी मौलिक शिक्षा प्रदान करे जिससे उसमें _____ (3) की क्षमता आ सके। इसमें _____ (4) शिक्षा का सबसे महत्वपूर्ण स्थान है। अगर हम साहस के साथ _____ (5) होकर अपने कर्तव्य का पालन करेंगे तो निःसन्देह हमारा भविष्य उज्ज्वल है।

SubQuestion No : 12

Q.1
2 गद्यांश में संकेतित रिक्त स्थान (5) के लिए उपयुक्त शब्द होगा।

- Ans
- 1. अचेत
 - 2. शक्तिशाली
 - 3. संचित
 - 4. सचेत

Question ID : 9895807140
Chosen Option : 4

Q.1
3 'जो स्मरण रखने योग्य हो' के लिए एक शब्द है-

- Ans
- 1. स्मरण
 - 2. स्मरणीय
 - 3. याददाश्त
 - 4. स्मृति

Question ID : 9895807148
Chosen Option : 2

Q.1
4 'उचित' का विलोम शब्द है -

- Ans
- 1. अनुचित

- 2. सूचित
- 3. अच्छा
- 4. गलत

Question ID : 9895807142
Chosen Option : 1

Q.1
5 'निर्गुण' का विलोम शब्द चयन करें।

- Ans
- 1. निपुण
 - 2. सगुण
 - 3. दुर्गुण
 - 4. निराकार

Question ID : 9895807141
Chosen Option : 2

Q.1
6 'लाल-पीला होना' मुहावरे का अर्थ है -

- Ans
- 1. बहुत गुस्सा करना
 - 2. झूठ बोलना
 - 3. प्रसन्न होना
 - 4. विरोध करना

Question ID : 9895807145
Chosen Option : 1

Q.1
7 रिक्त स्थान को भरने के लिए उपयुक्त शब्द का चयन करें।

दुर्जन दूसरों के दुख का _____ नहीं समझ सकता।

- Ans
- 1. करुणा
 - 2. मर्म
 - 3. कर्म
 - 4. उद्देश्य

Question ID : 9895807131
Chosen Option : 2

Q.1
8 दिए गए वाक्य का वह भाग ज्ञात करें जिसमें कोई त्रुटि है।

मैंने श्री रामलाल जी के सहयोग के लिए उनका अत्यंत आभारी हूँ।

- Ans
- 1. सहयोग के लिए
 - 2. आभारी हूँ
 - 3. मैंने श्री रामलाल जी के

4. उनका अत्यंत

Question ID : 9895807127
Chosen Option : 3

Q.1
9 'मुँह की खाना' मुहावरे का अर्थ है -

- Ans
- 1. बुरी तरह हारना
 - 2. पराजित करना
 - 3. नष्ट करना
 - 4. उदास होना

Question ID : 9895807146
Chosen Option : 1

Q.2
0 दिए गए वाक्य में रेखांकित खंड को प्रतिस्थापित करने के लिए उपयुक्त विकल्प का चयन करें।

वह अपने कार्य में समर्थ है।

- Ans
- 1. चालाक
 - 2. परायण
 - 3. अक्षम
 - 4. सक्षम

Question ID : 9895807128
Chosen Option : 4

Q.2
1 दिए गए वाक्य में रेखांकित खंड को प्रतिस्थापित करने के लिए उपयुक्त विकल्प का चयन करें।

गर्मियों में सूर्य तपता है।

- Ans
- 1. पद्माकर
 - 2. रत्नाकर
 - 3. सुधाकर
 - 4. दिवाकर

Question ID : 9895807129
Chosen Option : 4

Q.2
2 रिक्त स्थान को भरने के लिए उपयुक्त शब्द का चयन करें।

तालाब _____ पानी भरा है।

- Ans
- 1. में
 - 2. पर
 - 3. के
 - 4. को

Question ID : 9895807133
Chosen Option : 1

Q.2
3 सही वर्तनी वाले शब्द का चयन करें।

- Ans 1. हस्ताक्षर
 2. हस्तक्षर
 3. हस्ताक्षार
 4. हास्तक्षर

Question ID : 9895807150
Chosen Option : 1

Q.2
4 रिक्त स्थान को भरने के लिए उपयुक्त शब्द का चयन करें।

वह _____ चालाक है।

- Ans 1. ठोस
 2. बहुत
 3. दृढ़
 4. मंद

Question ID : 9895807132
Chosen Option : 2

Q.2
5 'पहाड़' का पर्यायवाची शब्द है-

- Ans 1. भास्कर
 2. सरित
 3. जलधर
 4. भूधर

Question ID : 9895807143
Chosen Option : 4

Constable (GD) in CAPFs, NIA, SSF and Rifleman (GD) in Assam Rifles Examination, 2018

Roll No. :	
Registration No.	
Name :	
Exam Venue :	
Exam Time :	4:00 PM - 5:30 PM
Exam Date :	08/03/2019

Section : General Section

Q.1 दिए गए विकल्पों में से संबंधित शब्द युग्म का चयन करें।

पृष्ठ : पुस्तक :: _____ : _____

- Ans
- 1. आकृति : विज्ञान
 - 2. शब्द : अनुच्छेद
 - 3. प्रश्न : उत्तर
 - 4. संख्या : ज्यामिति

Question ID : 9895809227
Chosen Option : 4

Q.2 यदि + का अर्थ '-', '-' का अर्थ '+', × का अर्थ '+', और '÷' का अर्थ '×', है, तो:

$$88 - 11 \div 3 \times 26 = ?$$

- Ans
- 1. 62
 - 2. 55
 - 3. 50
 - 4. 45

Question ID : 9895809241
Chosen Option : 2

Q.3 नीचे दिए गए कथनों के बाद दो निष्कर्ष I और II दिए गए हैं। यह मानते हुए कि कथनों में दी गई जानकारी सत्य है, भले ही वह सर्वज्ञात तथ्यों से भिन्न प्रतीत होती हो और यह निर्णय करें कि कौन सा/से निष्कर्ष तार्किक और निश्चित रूप से कथन में दी गई जानकारी का अनुसरण करता है / करते हैं।

कथन:

- सभी कप प्लेटें हैं।
- कुछ प्लेटें गिलास हैं।
- सभी मग गिलास हैं।

निष्कर्ष:

- I. कुछ गिलास कप हैं।
- II. कुछ मग कप हैं।

- Ans
- 1. निष्कर्ष I या II सत्य है।

2. केवल निष्कर्ष ॥ सत्य है।

3. न तो निष्कर्ष । न ही ॥ सत्य है।

4. केवल निष्कर्ष । सत्य है।

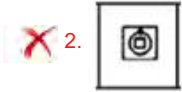
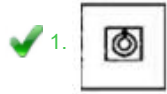
Question ID : 9895809234
Chosen Option : 1

Q.4 उस विकल्प का चयन करें जो दी गई आकृति श्रृंखला को पूरा करता है।

प्रश्न आकृति:



Ans



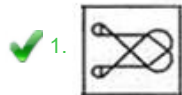
Question ID : 9895809242
Chosen Option : 1

Q.5 उस विकल्प आकृति का चयन करें, जिसमें प्रश्न आकृति छिपी हुई /अंतर्निहित है।

प्रश्न आकृति:



Ans



Question ID : 9895809244
Chosen Option : 1

Q.6 नीचे प्रश्न आकृति में दर्शाये गए तरीके से एक कागज को मोड़ा और काटा गया है। इस कागज को खोलने पर दी गयी उत्तर आकृतियों में से कौन सी आकृति दिखाई देगी?

प्रश्न आकृति:



Ans

- ✓ 1.
- ✗ 2.
- ✗ 3.
- ✗ 4.

Question ID : 9895809246
Chosen Option : 1

Q.7 नीचे दिए गए कथनों के बाद दो निष्कर्ष I और II दिए गए हैं। यह मानते हुए कि कथनों में दी गई जानकारी सत्य है, भले ही वह सर्वज्ञात तथ्यों से भिन्न प्रतीत होती हो और यह निर्णय करें कि कौन सा / से निष्कर्ष तार्किक और निश्चित रूप से कथन में दी गई जानकारी का अनुसरण करता है / करते हैं।

कथन:-

सभी सी.पी.यू., मॉनीटर हैं।
कुछ यू.पी.एस., मॉनीटर हैं।

निष्कर्ष:-

- I. कुछ सी.पी.यू., यू.पी.एस. हैं।
II. कुछ यू.पी.एस., सी.पी.यू. हैं।

Ans

- ✗ 1. केवल निष्कर्ष I अनुसरण करता है।
- ✗ 2. निष्कर्ष I या II अनुसरण करता है।
- ✓ 3. न तो निष्कर्ष I न ही II अनुसरण करता है।
- ✗ 4. केवल निष्कर्ष II अनुसरण करता है।

Question ID : 9895809235
Chosen Option : 2

Q.8 आठ दोस्त P, Q, R, S, T, V, W और Y एक वृत्त के चोतरफ केंद्र की ओर मुख किये बैठे हैं किन्तु आवश्यक नहीं की उसी क्रम में R, T के बाएं से तीसरे स्थान पर बैठा है। Y, T का तुरंत पड़ोसी है। W, S के दाएं से दूसरे स्थान पर बैठा है। S, R का तुरंत पड़ोसी नहीं है। W और V के बीच केवल एक व्यक्ति बैठा है। Q W या V में से किसी का तुरंत पड़ोसी नहीं है।

निम्नलिखित में से कौन W और V के ठीक बीच में बैठा है?

Ans

- ✗ 1. P
- ✓ 2. R
- ✗ 3. T
- ✗ 4. Y

Question ID : 9895809231

Chosen Option : 2

Q.9 चार अक्षर समूह दिए गए हैं, जिनमें से तीन किसी तरह से समान हैं, जबकि एक अलग है। असंगत अक्षर समूह का चयन करें।

- Ans
- 1. I10K
 - 2. Z11R
 - 3. O16Q
 - 4. M14O

Question ID : 9895809224

Chosen Option : 2

Q.1 0 सात बच्चे A, B, C, D, E, F और G एक पंक्ति में खड़े हैं। G, D के दाएँ ओर और B के बाँएँ ओर है। A, C दाएँ ओर है। A और D के बीच एक बच्चा है। F, G के दाएँ से दूसरे स्थान पर है। D और F के बीच दो बच्चे हैं।

ठीक बीच में कौन है?

- Ans
- 1. E
 - 2. A
 - 3. D
 - 4. C

Question ID : 9895809232

Chosen Option : 3

Q.1 1 एक निश्चित कूट में, LIFE को VSPO के रूप में कूटबद्ध किया जाता है। उस कोड में BAD कैसे कूटबद्ध किया जाता है?

- Ans
- 1. LKM
 - 2. LLM
 - 3. LJL
 - 4. LKN

Question ID : 9895809229

Chosen Option : 4

Q.1 2 उस विकल्प का चयन करें जो सही रूप में रिक्त स्थान की पूर्ति करते हुए श्रृंखला को पूरा करें।

90, 96, 105, 117, 132, _____

- Ans
- 1. 150
 - 2. 142
 - 3. 148
 - 4. 152

Question ID : 9895809236

Chosen Option : 1

Q.1 3 उस विकल्प का चयन करें जो सही रूप में रिक्त स्थान की पूर्ति करते हुए श्रृंखला को पूरा करें।

33, 45, 69, 105, 153, _____

Ans

1. 224
 2. 227
 3. 214
 4. 213

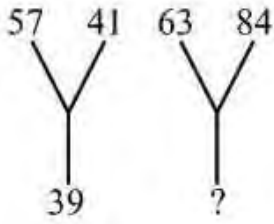
Question ID : 9895809237
 Chosen Option : 2

Q.1 M, D, R, P और Q सभी का वजन अलग-अलग है। R सिर्फ M से हल्का है तथा P, Q और D दोनों से हल्का है।
 4 इनमें से कौन-सा दूसरा सबसे भारी है?

- Ans 1. Q
 2. M
 3. D
 4. R

Question ID : 9895809233
 Chosen Option : 2

Q.1 दिए गए विकल्पों में से लुप्त संख्या ज्ञात करें।
 5



- Ans 1. 50
 2. 47
 3. 63
 4. 51

Question ID : 9895809240
 Chosen Option : 2

Q.1 एक निश्चित कूट में, BREAD को 2 के रूप में और TUESDAY को 3 के रूप में कूटबद्ध किया जाता है। उसी
 6 प्रकार SOLTITUDE कैसे कूटबद्ध किया जाता है?

- Ans 1. 4
 2. 3
 3. 5
 4. 2

Question ID : 9895809230
 Chosen Option : 1

Q.1 उस विकल्प का चयन करें जो तीसरे पद से उसी तरह संबंधित है जिस प्रकार दूसरा पद पहले पद से संबंधित है।
 7

CGK : PTX :: DJL : _____

- Ans 1. OQK

2. SGB
 3. OQW
 4. WOL

Question ID : 9895809228
 Chosen Option : 3

Q.1
 8 चार शब्द दिए गए हैं, जिनमें से तीन किसी तरह से समान हैं, जबकि एक अलग है। असंगत शब्द का चयन करें।

- Ans 1. मीठा
 2. खट्टा
 3. कड़वा
 4. विशिष्ट स्वाद

Question ID : 9895809225
 Chosen Option : 4

Q.1
 9 दिए गए विकल्पों में से संबंधित शब्द युग्म का चयन करें।

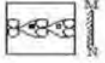
फूल : गुलदस्ता :: _____ : _____

- Ans 1. ईंटें : सड़कें
 2. घास : पेड़
 3. पुस्तकें : आवरण
 4. न्यायाधीश : न्यायपीठ

Question ID : 9895809226
 Chosen Option : 4

Q.2
 0 उस विकल्प का चयन करें जो दर्पण के दायीं ओर रखे जाने पर दि गई आकृति की दर्पण छवि से सर्वाधिक मेल खाता है।

प्रश्न आकृति:



- Ans 1.
 2.
 3.
 4.

Question ID : 9895809245
 Chosen Option : 1

Q.2 1 चार विकल्प दिए गए हैं, जिनमें से तीन किसी तरह से समान हैं, जबकि एक अलग है। असंगत का चयन करें।

- Ans
- 1. 145
 - 2. 286
 - 3. 257
 - 4. 122

Question ID : 9895809239
Chosen Option : 3

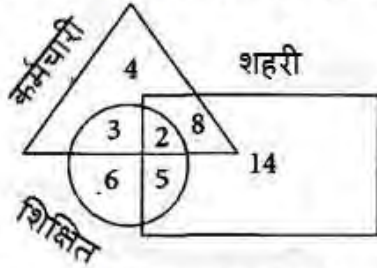
Q.2 2 उस विकल्प का चयन करें जो तीसरे पद से उसी तरह संबंधित है जिस प्रकार दूसरा पद पहले पद से संबंधित है।

2 : 32 :: 3 : ?

- Ans
- 1. 729
 - 2. 343
 - 3. 243
 - 4. 221

Question ID : 9895809238
Chosen Option : 2

Q.2 3 निम्नलिखित आरेख का अध्ययन करें और प्रश्न का उत्तर दें।



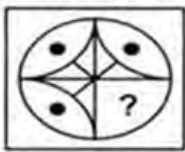
कितने शिक्षित लोग हैं जो शहरी नहीं हैं?

- Ans
- 1. 4
 - 2. 6
 - 3. 9
 - 4. 3

Question ID : 9895809247
Chosen Option : 4

Q.2 4 निम्नलिखित में से कौन सी उत्तर आकृति दी गई आकृति को पूरा करेगी?

प्रश्न आकृति:



- Ans
- 1.
 - 2.



Question ID : 9895809243
Chosen Option : 2

Q.2 5 उस विकल्प का चयन करें जो सही रूप में रिक्त स्थान की पूर्ति करते हुए श्रृंखला को पूरा करें।

FP, GQ, HR, ?

- Ans 1. BN
 2. IS
 3. IK
 4. SB

Question ID : 9895809223
Chosen Option : 2

Q.2 6 निम्न में से कौन सा पर्वतीय दर्रा भारत, चीन और म्यांमार के बीच त्रियक संधि का निर्माण करता है?

- Ans 1. जेलेप ला
 2. बोमडि ला
 3. दिफू दर्रा
 4. नाथु ला

Question ID : 9895809398
Chosen Option : 3

Q.2 7 गोईटर (गण्डमाला) _____ की बीमारी है।

- Ans 1. थाइरॉयड ग्रंथि
 2. अधिवृक्क ग्रंथि
 3. अग्न्याशय
 4. जिगर

Question ID : 9895809412
Chosen Option : 3

Q.2 8 भारतीय संविधान के निम्न में से किस संशोधन द्वारा दिल्ली को राष्ट्रीय राजधानी क्षेत्र का दर्जा दिया गया?

- Ans 1. 69वें संशोधन अधिनियम
 2. 76वें संशोधन अधिनियम
 3. 74वें संशोधन अधिनियम
 4. 63वें संशोधन अधिनियम

Question ID : 9895809419
Chosen Option : 2

Q.2
9 संयुक्त राज्य अमेरिका का राष्ट्रीय खेल कौन सा है?

- Ans
- 1. रग्बी
 - 2. बेसबॉल
 - 3. टेबल टेनिस
 - 4. क्रिकेट

Question ID : 9895809401
Chosen Option : 1

Q.3
0 वायु की अपर्याप्त मात्रा में जीवाश्म ईंधनों के दहन के फलस्वरूप कौन सी गैस निर्मित होती है?

- Ans
- 1. ब्यूटेन
 - 2. मीथेन
 - 3. कार्बन मोनोऑक्साइड
 - 4. कार्बन डाइऑक्साइड

Question ID : 9895809415
Chosen Option : 2

Q.3
1 सौर सेल किस प्रकार कार्य करता है?

- Ans
- 1. यह रासायनिक ऊर्जा को ऊष्मीय ऊर्जा में परिवर्तित करता है।
 - 2. यह विद्युत् ऊर्जा को प्रकाश ऊर्जा में परिवर्तित करता है।
 - 3. यह सौर ऊर्जा को विद्युत् ऊर्जा में परिवर्तित करता है।
 - 4. यह रासायनिक ऊर्जा को विद्युत् ऊर्जा में परिवर्तित करता है।

Question ID : 9895809411
Chosen Option : 3

Q.3
2 'हैरी पॉटर एंड डेथली हॉलोज़' पुस्तक के लेखक कौन हैं?

- Ans
- 1. विलियम शेक्सपियर
 - 2. एडम स्मिथ
 - 3. जे.के.रॉलिंग
 - 4. चार्ल्स डिकेंस

Question ID : 9895809410
Chosen Option : 1

Q.3
3 लाल मिट्टी के लाल रंग का होने का कारण क्या है?

- Ans
- 1. क्रिस्टलीय और मेटामॉर्फिक चट्टानों में लोहे की व्याप्ति
 - 2. उच्च तापमान और अत्यधिक वर्षा

3. अत्यधिक वर्षा
4. मिट्टी में जलयोजन

Question ID : 9895809399
Chosen Option : 1

Q.3
4 महात्मा गांधी ने असहयोग आंदोलन कब शुरू किया, जो देशव्यापी पैमाने पर आयोजित पहला जन आंदोलन था?

- Ans 1. अप्रैल 1923
2. मार्च 1919
3. जनवरी 1922
4. अगस्त 1920

Question ID : 9895809417
Chosen Option : 1

Q.3
5 निम्नलिखित में से कौन सा देश G4 राष्ट्रों में से एक है?

- Ans 1. अमेरीका
2. ब्राज़िल
3. ऑस्ट्रेलिया
4. चीन

Question ID : 9895809403
Chosen Option : 1

Q.3
6 निम्न में से क्या धारक की इक्विटी में कमी का प्रतिनिधित्व करता है?

- Ans 1. भवन की खरीद
2. डिबेंचर का निवारण
3. वरीयता प्राप्त शेयरों का निवारण
4. बोनस शेयर जारी करना

Question ID : 9895809405
Chosen Option : 4

Q.3
7 जोहान गुटेनबर्ग द्वारा पहली मुद्रित पुस्तक कौन सी थी?

- Ans 1. पंचांग
2. फेरी-पुस्तिका
3. हस्त-पुस्तिका
4. बाइबल

Question ID : 9895809418
Chosen Option : 3

Q.3
8 भारतीय संविधान की प्रस्तावना में शब्द _____, द्वारा यह परिकल्पित है, कि कानून से समक्ष सभी समान हैं।

Ans

1. 'समता'
2. 'कानून'
3. 'न्याय'
4. 'जनता'

Question ID : 9895809421
Chosen Option : 4

Q.3
9 लोकसभा की पहली महिला स्पीकर कौन थीं?

- Ans 1. इंदिरा गांधी
2. मीरा कुमार
3. सरोजिनी नायडू
4. लीला सेठ

Question ID : 9895809422
Chosen Option : 3

Q.4
0 वियतनाम में रहने वाले फ्रांसिसी नागरिकों को क्या कहा जाता था?

- Ans 1. अभिजात्य
2. वियतनामी
3. फ्रेंच
4. कोलन

Question ID : 9895809416
Chosen Option : 3

Q.4
1 "भारतीय परमाणु कार्यक्रम के जनक" के रूप में किसे जाना जाता है?

- Ans 1. होमी भाभा
2. राजा रमन्ना
3. अनिल काकोडकर
4. होमी सेठना

Question ID : 9895809409
Chosen Option : 1

Q.4
2 1930 में प्रथम राष्ट्रमंडल खेलों का आयोजन कहाँ हुआ?

- Ans 1. कनाडा
2. जर्मनी
3. रूस
4. भारत

Question ID : 9895809402
Chosen Option : 3

Q.4
3 निम्न में से सिखों का कौन सा धार्मिक स्थल भारत में नहीं है?

- Ans
- 1. नांदेड़
 - 2. केशगढ़ साहिब
 - 3. पांवटा साहिब
 - 4. ननकाना साहिब

Question ID : 9895809408
Chosen Option : 1

Q.4
4 निम्नलिखित में से कौन सा प्राधिकरण ऋण के औपचारिक स्रोतों के कामकाज की निगरानी करता है?

- Ans
- 1. भारतीय स्टेट बैंक
 - 2. भारत सरकार
 - 3. भारतीय रिज़र्व बैंक
 - 4. केंद्रीय बैंक

Question ID : 9895809404
Chosen Option : 3

Q.4
5 धाप एक लोक नृत्य है जो _____ की कंधा जनजाति द्वारा किया जाता है।

- Ans
- 1. असम
 - 2. गोवा
 - 3. ओडीशा
 - 4. केरल

Question ID : 9895809406
Chosen Option : 4

Q.4
6 जठर अम्ल _____ द्वारा पेट में स्रावित होते हैं।

- Ans
- 1. पार्श्विक कोशिकाओं
 - 2. अम्लीय कोशिकाओं
 - 3. गैस्ट्रिन स्रावी कोशिकाओं
 - 4. पेप्टिक कोशिकाओं

Question ID : 9895809413
Chosen Option : 2

Q.4
7 कुओं और नलकूपों के बाद भारत में सिंचाई का सबसे बड़ा साधन निम्न में से कौन सा है?

- Ans
- 1. तालाब
 - 2. तलैया
 - 3. नदियाँ
 - 4. नहरें

Question ID : 9895809400

Chosen Option : 4

Q.4 _____ का अस्तर छोटी उंगली की तरह बहिर्गत भाग से ढंका है जिसे विल्ली (Villi) कहा जाता है।

- Ans
- 1. अग्न्याशय
 - 2. छोटी आंत
 - 3. पेट
 - 4. तिल्ली

Question ID : 9895809414
Chosen Option : 1

Q.4 2017 में राजनीति में महिलाएँ मानचित्र रिपोर्ट के अनुसार, कार्यकारी सरकार में महिलाओं के प्रतिनिधित्व में भारत को _____ स्थिति में स्थान दिया गया था।

- Ans
- 1. 110वां
 - 2. 155वां
 - 3. 148वां
 - 4. 98वां

Question ID : 9895809420
Chosen Option : 3

Q.5 _____ जाकिर हुसैन निम्न में से कौन सा वाद्ययंत्र बजाते हैं?

- Ans
- 1. सरोद
 - 2. बांसुरी
 - 3. तबला
 - 4. संतूर

Question ID : 9895809407
Chosen Option : 3

Q.5 एक समकोण त्रिभुज का क्षेत्रफल 120 sq. cm है। लंबवत भुजाओं का अनुपात 12 : 5 है। त्रिभुज की परिमाप ज्ञात करें।

- Ans
- 1. 50 cm
 - 2. 60 cm
 - 3. 45 cm
 - 4. 90 cm

Question ID : 9895809592
Chosen Option : 2

Q.5 सरलीकृत करें:

$$7368 \div 24 \times 17 = ?$$

- Ans
- 1. 5219
 - 2. 5129
 - 3. 5229
 - 4. 5119

Question ID : 9895809574
Chosen Option : 3

Q.5 अजय और अमन के पास जो पैसे हैं उस का अनुपात 7 : 17 है तथा अमन और अनिल के पास जो पैसे हैं उसका अनुपात 2 : 3 है। यदि अजय के पास ₹ 490 है, तो अनिल के पास कितने रुपये हैं?

Ans

1. ₹ 1440
2. ₹ 1560
3. ₹ 1785
4. ₹ 1200

Question ID : 9895809584
Chosen Option : 2

Q.5 7 छात्रों द्वारा परीक्षा में प्राप्त अंकों का औसत 75 और 11 और अन्य छात्रों का औसत 87 था। 18 छात्रों का औसत _____ है। (दशमलव के दो स्थान तक सही)

Ans

1. 45.64
2. 85.46
3. 82.33
4. 51.23

Question ID : 9895809577
Chosen Option : 4

Q.5 1500 के 60% का 350% = ?

Ans

1. 2850
2. 2800
3. 3150
4. 2900

Question ID : 9895809580
Chosen Option : 3

Q.5 किसी राशि पर 10% वार्षिक व्याज की दर से 2 वर्ष के चक्रवृद्धि व्याज और साधारण व्याज का अंतर ₹ 124 है। राशि (₹ में) है:

Ans

1. ₹ 4000
2. ₹ 8000
3. ₹ 12400

4. ₹ 6200

Question ID : 9895809587
Chosen Option : 4

Q.5
7 एक वस्तु को 20% के लाभ पर बेचा जाता है। यदि इसे 25% के लाभ पर बेचा जाता तो ₹ 35 अधिक प्राप्त होते। वस्तु का क्रय मूल्य क्या है?

Ans

1. ₹ 750

2. ₹ 700

3. ₹ 800

4. ₹ 650

Question ID : 9895809582
Chosen Option : 2

Q.5
8 मीना 10 दिन में एक काम पूरा कर सकती है, जबकि मीना और रीना एक साथ मिलकर 7 दिन में वही काम को पूरा कर सकती हैं। रीना को अकेले ही काम को पूरा करने में कितना समय लगेगा?

Ans

1. $\frac{70}{3}$ दिन

2. $\frac{55}{3}$ दिन

3. $\frac{80}{3}$ दिन

4. $\frac{50}{3}$ दिन

Question ID : 9895809588
Chosen Option : 1

Q.5
9 यदि $A = \frac{B}{4}$ और $B = \frac{C}{3}$ है तो $A : B : C$ का मान _____ है।

Ans

1. 4 : 5 : 6

2. 5 : 3 : 2

3. 4 : 3 : 2

4. 1 : 4 : 12

Question ID : 9895809583
Chosen Option : 3

Q.6
0 एक कार को 300 km की दूरी तय करने में 4 घंटे लगते हैं। पिछले समयके $\frac{3}{4}$ वें समय में उतनी ही दूरी को तय करने के लिए कार की गति km/hr में कितनी होनी चाहिए?

Ans

1. 120

2. 75

3. 80

4. 100

Question ID : 9895809590

Chosen Option : 2

Q.6
1 दो बेलन A और B की विज्या क्रमशः 4 : 7 के अनुपात में और ऊँचाई क्रमशः 7 : 5 के अनुपात में है। A से अपेक्षित बेलन B के वक्रपृष्ठ क्षेत्रफल का अनुपात ज्ञात कीजिए।

Ans 1. 5 : 4

2. 49 : 35

3. 35 : 49

4. 3 : 5

Question ID : 9895809594

Chosen Option : 3

Q.6
2 ₹ 24,000 की निवेशित राशि पर पाँच वर्षों के लिए 18% वार्षिक साधारण ब्याज दर से प्राप्त राशि कितनी होगी?

Ans 1. ₹ 48,000

2. ₹ 43,800

3. ₹ 45,600

4. ₹ 44,000

Question ID : 9895809586

Chosen Option : 3

Q.6
3 120, 140 और 160 का लघुतम समापवर्त्य निम्न में से कौन सा है?

Ans 1. 2560

2. 3260

3. 3160

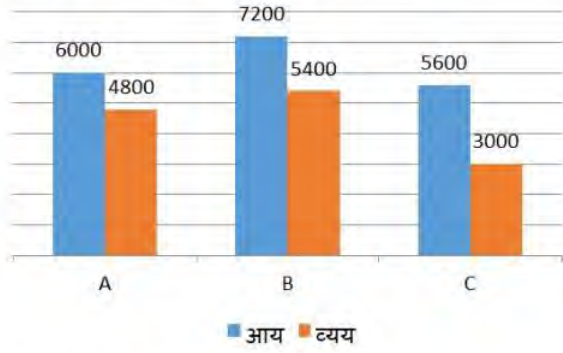
4. 3360

Question ID : 9895809573

Chosen Option : 2

Q.6
4

निम्नलिखित बार ग्राफ का ध्यानपूर्वक अध्ययन करें और दिए गए प्रश्नों के उत्तर दें। ग्राफ तीन व्यक्तियों A, B और C की साप्ताहिक आय और व्यय को दर्शाता है।



टिपण्णी : बचत = आय - व्यय

C की बचत और A की बचत का अनुपात _____ है।

Ans

1. 4 : 9
2. 17 : 7
3. 7 : 13
4. 13 : 6

Question ID : 9895809596

Chosen Option : 4

Q.6 3√10 cm भुजा के घन की प्रत्येक भुजा से √7 cm विज्या के वृत्त काटे जाते हैं। घन के शेष क्षेत्रफल तथा कटे हुए क्षेत्रफल का अनुपात क्या है? ($\pi = \frac{22}{7}$ लीजिए)

Ans

1. 101 : 44
2. 34 : 11
3. 223 : 17
4. 150 : 13

Question ID : 9895809593

Chosen Option : 2

Q.6 यदि एक रेलगाड़ी किसी खम्भे को 90 km/hr की गति से 20 सेकंड में पार करती है, तो रेलगाड़ी की लंबाई (मीटर में) कितनी होगी?

Ans

1. 500
2. 900
3. 1000
4. 750

Question ID : 9895809591

Chosen Option : 2

Q.6 ₹ 69 में एक वस्तु को बेचने पर 8% की हानि होती है। यदि इसे ₹ 78 में बेचा जाता है तो प्रतिशत लाभ या हानि कितनी है?

Ans

1. 40% लाभ

2. 4% लाभ

3. न लाभ न हानि

4. 4% हानि

Question ID : 9895809581

Chosen Option : 3

Q.6 आंकड़ों 32, 15, 25, 20, 8, 46, 43 और 51 का माध्य _____ है।

Ans 1. 30.5

2. 28

3. 28.5

4. 30

Question ID : 9895809579

Chosen Option : 2

Q.6 सरलीकृत करें:

$$98 + 100 \times 76 = ?$$

Ans 1. 7698

2. 7869

3. 9876

4. 8976

Question ID : 9895809575

Chosen Option : 1

Q.7 12 महिलाएँ 8 घंटे प्रतिदिन काम करके किसी कार्य को 20 दिनों में पूरा करती हैं, तो उसी काम को 15 दिनों में पूरा करने के लिए 16 महिलाओं को कितने घंटे प्रतिदिन काम करना पड़ेगा?

Ans 1. 6 घंटे

2. 4 घंटे

3. 5 घंटे

4. 8 घंटे

Question ID : 9895809589

Chosen Option : 3

Q.7 एक संख्या का 75%, दूसरी संख्या के $\frac{2}{7}$ के बराबर है। पहली और दूसरी संख्या के बीच अनुपात क्या है?

Ans 1. 7 : 13

2. 5 : 12

✓ 3. 8 : 21

✗ 4. 4 : 7

Question ID : 9895809585

Chosen Option : 4

Q.7
2 निम्नलिखित बार ग्राफ का ध्यानपूर्वक अध्ययन करें और दिए गए प्रश्नों के उत्तर दें। ग्राफ तीन व्यक्तियों A, B और C की साप्ताहिक आय और व्यय को दर्शाता है।



टिपण्णी : बचत = आय - व्यय

B का व्यय, B की बचत का कितना प्रतिशत है?

Ans

✗ 1. 150%

✗ 2. $33\frac{1}{3}\%$

✓ 3. 300%

✗ 4. $166\frac{2}{3}\%$

Question ID : 9895809597

Chosen Option : 3

Q.7
3 9 संख्याओं का औसत 30 है। पहली 5 संख्याओं का औसत 25 है और अंतिम 3 संख्याओं का औसत 35 है। छठी संख्या क्या है?

Ans

✗ 1. 36

✗ 2. 38

✓ 3. 40

✗ 4. 37

Question ID : 9895809576

Chosen Option : 3

Q.7
4

निम्नलिखित बार ग्राफ का ध्यानपूर्वक अध्ययन करें और दिए गए प्रश्नों के उत्तर दें। ग्राफ तीन व्यक्तियों A, B और C की साप्ताहिक आय और व्यय को दर्शाता है।



टिपण्णी : बचत = आय - व्यय

A और C की साप्ताहिक बचत के बीच का अंतर B की बचत से कितना प्रतिशत कम है?

Ans

- ✓ 1. $22\frac{2}{9}\%$
 ✗ 2. $16\frac{2}{9}\%$
 ✗ 3. 25%
 ✗ 4. $33\frac{1}{3}\%$

Question ID : 9895809595
Chosen Option : 3

Q.7
5

एक व्यापारी अपने विक्रय मूल्य को लागत मूल्य से 10% अधिक अंकित करता है। बेचते समय वह कुछ छूट देता है जिससे उसे 1% की हानि होती है। उसने कितनी छूट दी होगी?

Ans

- ✗ 1. 9%
 ✗ 2. 10.5%
 ✗ 3. 11%
 ✓ 4. 10%

Question ID : 9895809578
Chosen Option : 3

Section : English Language

Q.1 Select the most appropriate word to fill in the blank.

If you drink too much, it will _____ your judgement.

Ans

- ✗ 1. Impel
 ✓ 2. Impede
 ✗ 3. Impose
 ✗ 4. Improve

Question ID : 9895809772
Chosen Option : --

Q.2

Select the antonym of the given word.

FATIGUED

- Ans 1. Energized
 2. Tired
 3. Exhausted
 4. Deprived

Question ID : 9895809764
Chosen Option : --

Q.3 Select the wrongly spelt word.

- Ans 1. Resistance
 2. Independent
 3. Characteristic
 4. Beneficial

Question ID : 9895809771
Chosen Option : --

Q.4 Select the antonym of the given word.

CONSENSUS

- Ans 1. Disagreement
 2. Consent
 3. Agreement
 4. Harmony

Question ID : 9895809765
Chosen Option : --

Q.5 Select the synonym of the given word.

CONTRARY

- Ans 1. Affiliated
 2. Opposite
 3. Similar
 4. Linked

Question ID : 9895809763
Chosen Option : --

Q.6 Select the meaning of the given idiom in the sentence.

Harassed by repeated acts of injustice, he decided to put his foot down.

- Ans 1. Resign
 2. Not to yield
 3. Withdraw

4. Change his mind

Question ID : 9895809767

Chosen Option : --

Q.7 Select the word which means the same as the group of words given.

The dead body of an animal

- Ans
- 1. Skull
 - 2. Skeleton
 - 3. Vesper
 - 4. Carcass

Question ID : 9895809768

Chosen Option : --

Q.8 Identify the segment in the sentence which contains the grammatical error from the given options.

The Supreme Court has the power to modification or cancel laws in the country.

- Ans
- 1. the power
 - 2. cancel laws
 - 3. to modification
 - 4. The Supreme Court

Question ID : 9895809748

Chosen Option : --

Comprehension:

In the following passage some words have been deleted. Fill in the blanks with the help of the alternatives given. Select the most appropriate option for each number.

As the demand for books increased, booksellers all (1) _____ Europe began sending books to (2) _____ different countries. Book fairs were (3) _____ at different places. Production of handwritten manuscripts (4) _____ also organized. Books were now (5) _____ to more people.

SubQuestion No : 9

Q.9 Select the most appropriate option that will fill in the blank number 1.

- Ans
- 1. about
 - 2. in
 - 3. through
 - 4. over

Question ID : 9895809757

Chosen Option : --

Comprehension:

In the following passage some words have been deleted. Fill in the blanks with the help of the alternatives given. Select the most appropriate option for each number.

As the demand for books increased, booksellers all (1) _____ Europe began sending books to (2) _____ different countries. Book fairs were (3) _____ at different places. Production of handwritten manuscripts (4) _____ also organized. Books were now (5) _____ to more people.

SubQuestion No : 10

Q.1
0 Select the most appropriate option that will fill in the blank number 2.

- Ans 1. many
 2. populous
 3. numeral
 4. plentiful

Question ID : 9895809758
Chosen Option : --

Comprehension:

In the following passage some words have been deleted. Fill in the blanks with the help of the alternatives given. Select the most appropriate option for each number.

As the demand for books increased, booksellers all (1) _____ Europe began sending books to (2) _____ different countries. Book fairs were (3) _____ at different places. Production of handwritten manuscripts (4) _____ also organized. Books were now (5) _____ to more people.

SubQuestion No : 11

Q.1
1 Select the most appropriate option that will fill in the blank number 3.

- Ans 1. established
 2. held
 3. managed
 4. placed

Question ID : 9895809759
Chosen Option : --

Comprehension:

In the following passage some words have been deleted. Fill in the blanks with the help of the alternatives given. Select the most appropriate option for each number.

As the demand for books increased, booksellers all (1) _____ Europe began sending books to (2) _____ different countries. Book fairs were (3) _____ at different places. Production of handwritten manuscripts (4) _____ also organized. Books were now (5) _____ to more people.

SubQuestion No : 12

Q.1
2 Select the most appropriate option that will fill in the blank

number 4.

- Ans
- 1. was
 - 2. is
 - 3. are
 - 4. were

Question ID : 9895809760
Chosen Option : --

Comprehension:

In the following passage some words have been deleted. Fill in the blanks with the help of the alternatives given. Select the most appropriate option for each number.

As the demand for books increased, booksellers all (1) _____ Europe began sending books to (2) _____ different countries. Book fairs were (3) _____ at different places. Production of handwritten manuscripts (4) _____ also organized. Books were now (5) _____ to more people.

SubQuestion No : 13

Q.1
3 Select the most appropriate option that will fill in the blank

number 5.

- Ans
- 1. useful
 - 2. presented
 - 3. available
 - 4. readable

Question ID : 9895809761
Chosen Option : --

Q.1
4 Select the most appropriate option to substitute the underlined segment in the given sentence. If there is no need to substitute it, select No substitution required.

Charles Dickens writes for the effects of industrialization on people's lives.

- Ans
- 1. is writing with
 - 2. wrote about
 - 3. No substitution required
 - 4. was writing of

Question ID : 9895809751
Chosen Option : --

Q.1
5 Select the synonym of the given word.

CONFINE

- Ans
- 1. Liberate
 - 2. Restrict
 - 3. Rescue

4. Release

Question ID : 9895809762
Chosen Option : --

Q.1
6 Select the most appropriate word to fill in the blank.

Leading novelists of the nineteenth century _____ for a cause.

- Ans
- 1. writes
 - 2. has written
 - 3. are writing
 - 4. wrote

Question ID : 9895809755
Chosen Option : --

Q.1
7 Select the meaning of the given idiom in the sentence.

The detective left no stone unturned to trace the culprit.

- Ans
- 1. Took no pains
 - 2. Resorted to unfair practices
 - 3. Used all available means
 - 4. Did irrelevant things

Question ID : 9895809766
Chosen Option : --

Q.1
8 Select the most appropriate word to fill in the blank.

The speaker had not written his speech properly and went on _____ one point only.

- Ans
- 1. Insisting
 - 2. Decrying
 - 3. Emphasising
 - 4. Avoiding

Question ID : 9895809773
Chosen Option : --

Q.1
9 Select the word which means the same as the group of words given.

A building in which Jewish people worship and study their religion

- Ans
- 1. Mosque
 - 2. Temple
 - 3. Church
 - 4. Synagogue

Question ID : 9895809769
Chosen Option : --

Q.2 Identify the segment in the sentence which contains the grammatical error from the given options.
0

The use of new technology has bring down the price of books.

- Ans
- 1. of books
 - 2. bring down
 - 3. The use of
 - 4. technology

Question ID : 9895809750

Chosen Option : --

Q.2 Identify the segment in the sentence which contains the grammatical error from the given options.
1

For a long time the publishing market excluding the poor.

- Ans
- 1. For a long
 - 2. excluding
 - 3. publishing
 - 4. the poor

Question ID : 9895809749

Chosen Option : --

Q.2 Select the most appropriate option to substitute the underlined segment in the given sentence. If there is no need to substitute it, select No substitution required.
2

The eighteenth century saw the middle classes becoming most prosperous.

- Ans
- 1. No substitution required
 - 2. being more than
 - 3. become more
 - 4. became most

Question ID : 9895809752

Chosen Option : --

Q.2 Select the wrongly spelt word.
3

- Ans
- 1. Perseverence
 - 2. Probable
 - 3. Politician
 - 4. Possession

Question ID : 9895809770

Chosen Option : --

Q.2 Select the most appropriate word to fill in the blank.
4

The little girl protested _____ the hypocrisy of her elders.

- Ans
- 1. against
 - 2. apart
 - 3. along

✓ 4. with

Question ID : 9895809754

Chosen Option : --

Q.2 Select the most appropriate option to substitute the underlined segment in the given sentence. If there is no need to substitute it, select No substitution required.

5

The novels of Jane Austen give us a glimpse of the world of women.

Ans

✗ 1. has given the

✗ 2. No substitution required

✗ 3. gave them the

✓ 4. gives us a

Question ID : 9895809753

Chosen Option : --

Section : Hindi Language

Q.1 'लोक' शब्द का विलोम शब्द है-

Ans

✓ 1. परलोक

✗ 2. इहलोक

✗ 3. समाज

✗ 4. संसार

Question ID : 9895807168

Chosen Option : 1

Comprehension:

निम्नलिखित गद्यांश के रिक्त स्थानों की पूर्ति गद्यांश के नीचे दिए गए प्रश्नों के अनुसार कीजिए-

विद्यार्थी जीवन ही वह समय है जिसमें बच्चों के चरित्र, व्यवहार तथा _____ (1) को जैसा चाहें वैसा रूप दिया जा सकता है। यह अवस्था भावी _____ (2) की उस कोमल शाखा की भाँति है जिसे जिधर चाहे मोड़ा जा सकता है। विकसित होने के बाद उन्हें मोड़ने का _____ (3) करने पर वे टूट सकती हैं , पर मुड़ नहीं सकतीं। छात्रावस्था श्वेत चादर की तरह होती है। सफेद चादर पर एक बार जो _____ (4) चढ़ गया, सो चढ़ गया; फिर से वह पूर्वावस्था को प्राप्त नहीं हो सकती। इसीलिए _____ (5) से ही विद्यार्थी जीवन के महत्व को स्वीकार किया गया है।

SubQuestion No : 2

Q.2 गद्यांश में संकेतित रिक्त स्थान (1) के लिए उपयुक्त शब्द होगा।

Ans

✗ 1. पुष्प

✗ 2. दुराचारण

✓ 3. आचरण

✗ 4. विचरण

Question ID : 9895807162

Chosen Option : 3

Comprehension:

निम्नलिखित गद्यांश के रिक्त स्थानों की पूर्ति गद्यांश के नीचे दिए गए प्रश्नों के अनुसार कीजिए-

विद्यार्थी जीवन ही वह समय है जिसमें बच्चों के चरित्र, व्यवहार तथा _____ (1) को जैसा चाहें वैसा रूप दिया जा सकता है। यह अवस्था भावी _____ (2) की उस कोमल शाखा की भाँति है जिसे जिधर चाहे मोड़ा जा सकता है। विकसित होने के बाद उन्हें मोड़ने का _____ (3) करने पर वे टूट सकती हैं , पर मुड़ नहीं सकतीं। छात्रावस्था श्वेत चादर की तरह होती है। सफेद चादर पर एक बार जो _____ (4) चढ़ गया, सो चढ़ गया; फिर से वह पूर्वावस्था को प्राप्त नहीं हो सकती। इसीलिए _____ (5) से ही विद्यार्थी जीवन के महत्व को स्वीकार किया गया है।

SubQuestion No : 3

Q.3 गद्यांश में संकेतित रिक्त स्थान (2) के लिए उपयुक्त शब्द होगा।

- Ans
- ✗ 1. पुष्प
 - ✓ 2. वृक्ष
 - ✗ 3. जन्तु
 - ✗ 4. फल

Question ID : 9895807163

Chosen Option : 2

Comprehension:

निम्नलिखित गद्यांश के रिक्त स्थानों की पूर्ति गद्यांश के नीचे दिए गए प्रश्नों के अनुसार कीजिए-

विद्यार्थी जीवन ही वह समय है जिसमें बच्चों के चरित्र, व्यवहार तथा _____ (1) को जैसा चाहें वैसा रूप दिया जा सकता है। यह अवस्था भावी _____ (2) की उस कोमल शाखा की भाँति है जिसे जिधर चाहे मोड़ा जा सकता है। विकसित होने के बाद उन्हें मोड़ने का _____ (3) करने पर वे टूट सकती हैं , पर मुड़ नहीं सकतीं। छात्रावस्था श्वेत चादर की तरह होती है। सफेद चादर पर एक बार जो _____ (4) चढ़ गया, सो चढ़ गया; फिर से वह पूर्वावस्था को प्राप्त नहीं हो सकती। इसीलिए _____ (5) से ही विद्यार्थी जीवन के महत्व को स्वीकार किया गया है।

SubQuestion No : 4

Q.4 गद्यांश में संकेतित रिक्त स्थान (3) के लिए उपयुक्त शब्द होगा।

- Ans
- 1. विकल्प
 - 2. प्रयास
 - 3. संकल्प
 - 4. विरोध

Question ID : 9895807164
Chosen Option : 2

Comprehension:

निम्नलिखित गद्यांश के रिक्त स्थानों की पूर्ति गद्यांश के नीचे दिए गए प्रश्नों के अनुसार कीजिए-

विद्यार्थी जीवन ही वह समय है जिसमें बच्चों के चरित्र, व्यवहार तथा _____ (1) को जैसा चाहें वैसा रूप दिया जा सकता है। यह अवस्था भावी _____ (2) की उस कोमल शाखा की भाँति है जिसे जिधर चाहे मोड़ा जा सकता है। विकसित होने के बाद उन्हें मोड़ने का _____ (3) करने पर वे टूट सकती हैं , पर मुड़ नहीं सकती। छात्रावस्था श्वेत चादर की तरह होती है। सफेद चादर पर एक बार जो _____ (4) चढ़ गया, सो चढ़ गया; फिर से वह पूर्वावस्था को प्राप्त नहीं हो सकती। इसीलिए _____ (5) से ही विद्यार्थी जीवन के महत्व को स्वीकार किया गया है।

SubQuestion No : 5

Q.5 गद्यांश में संकेतित रिक्त स्थान (4) के लिए उपयुक्त शब्द होगा।

- Ans
- 1. भंग
 - 2. मिश्ररंग
 - 3. रंग
 - 4. उपरंग

Question ID : 9895807165
Chosen Option : 3

Comprehension:

निम्नलिखित गद्यांश के रिक्त स्थानों की पूर्ति गद्यांश के नीचे दिए गए प्रश्नों के अनुसार कीजिए-

विद्यार्थी जीवन ही वह समय है जिसमें बच्चों के चरित्र, व्यवहार तथा _____ (1) को जैसा चाहें वैसा रूप दिया जा सकता है। यह अवस्था भावी _____ (2) की उस कोमल शाखा की भाँति है जिसे जिधर चाहे मोड़ा जा सकता है। विकसित होने के बाद उन्हें मोड़ने का _____ (3) करने पर वे टूट सकती हैं, पर मुड़ नहीं सकतीं। छात्रावस्था श्वेत चादर की तरह होती है। सफेद चादर पर एक बार जो _____ (4) चढ़ गया, सो चढ़ गया; फिर से वह पूर्वावस्था को प्राप्त नहीं हो सकती। इसीलिए _____ (5) से ही विद्यार्थी जीवन के महत्व को स्वीकार किया गया है।

SubQuestion No : 6

Q.6 गद्यांश में संकेतित रिक्त स्थान (5) के लिए उपयुक्त शब्द होगा।

- Ans
- 1. प्रचीन काल
 - 2. नवीन काल
 - 3. आधुनिक काल
 - 4. वर्तमान काल

Question ID : 9895807166
Chosen Option : 1

Q.7 रिक्त स्थान को भरने के लिए उपयुक्त शब्द का चयन करें।

देखने में प्रिय लगने वाला व्यक्ति _____ कहलाता है।

- Ans
- 1. सूक्ष्मदर्शी
 - 2. समदर्शी
 - 3. दूरदर्शी
 - 4. प्रियदर्शी

Question ID : 9895807157
Chosen Option : 4

Q.8 'करुण' शब्द का विलोम शब्द है-

- Ans
- 1. बुरा
 - 2. विनम्र
 - 3. कोमल
 - 4. निष्ठुर

Question ID : 9895807167
Chosen Option : 4

Q.9 दिए गए वाक्य का वह भाग ज्ञात करें जिसमें कोई त्रुटि है।

इस पुस्तक का मांग निरंतर बढ़ती जा रही है।

- Ans
- 1. निरंतर बढ़ती
 - 2. इस पुस्तक
 - 3. का मांग
 - 4. जा रही है।

Question ID : 9895807151
Chosen Option : 3

Q.10 सही वर्तनी वाले शब्द का चयन करें।

- Ans
- 1. भासकर
 - 2. भाष्कर
 - 3. भास्कर
 - 4. भाशकर

Question ID : 9895807176
Chosen Option : 3

Q.11 'जो सबमें व्याप्त है' के लिए एक शब्द है-

- Ans
- 1. ईश्वर
 - 2. ब्राह्म
 - 3. भगवान
 - 4. सर्वव्यापी

Question ID : 9895807174
Chosen Option : 4

Q.12 रिक्त स्थान को भरने के लिए उपयुक्त शब्द का चयन करें।

सुन्दर आँखों के कारण वह _____ कहलाती है।

- Ans
- 1. लोचनी
 - 2. सुदर्शना
 - 3. सुलोचना
 - 4. सुदृष्टि

Question ID : 9895807160
Chosen Option : 4

Q.13 'घर' का पर्यायवाची शब्द है-

- Ans
- 1. प्रवास
 - 2. ठिकाना

3. वसन
4. निकेतन

Question ID : 9895807170
Chosen Option : 4

Q.1
4 सही वर्तनी वाले शब्द का चयन करें।

- Ans
1. सदुपदेश
2. सदेपदेश
3. सदोपदेश
4. सदुपेदश

Question ID : 9895807175
Chosen Option : 1

Q.1
5 दिए गए वाक्य में रेखांकित खंड को प्रतिस्थापित करने के लिए उपयुक्त विकल्प का चयन करें।

वादक के लिए वादयंत्रों के वादन में पारंगत होना जरूरी है।

- Ans
1. अभ्यस्त
2. अवगत
3. निपुण
4. अनुभवी

Question ID : 9895807156
Chosen Option : 3

Q.1
6 'गाँठ बाँधना' मुहावरे का अर्थ है-

- Ans
1. प्रतिशोध लेना
2. रस्सी बाँधना
3. बदला निकालना
4. अच्छी प्रकार याद रखना

Question ID : 9895807172
Chosen Option : 4

Q.1
7 दिए गए वाक्य में रेखांकित खंड को प्रतिस्थापित करने के लिए उपयुक्त विकल्प का चयन करें।

संत कवियों ने लौकिक सुख की तुच्छता का प्रतिपादन किया है।

- Ans
1. सांसारिक
2. परलौकिक
3. अप्राकृतिक
4. अलौकिक

Question ID : 9895807154
Chosen Option : 4

Q.1
8 'जो कहा न जा सके' के लिए एक शब्द है-

- Ans
- 1. कथाकार
 - 2. कथ्य
 - 3. अनुकरणीय
 - 4. अकथनीय

Question ID : 9895807173

Chosen Option : 4

Q.1
9 दिए गए वाक्य का वह भाग ज्ञात करें जिसमें कोई त्रुटि है।

शिक्षक ने विद्यार्थियों को समझाया कि वे आपस में मिल-मिल कर रहें।

- Ans
- 1. समझाया कि
 - 2. वे आपस में मिल-मिल कर रहें।
 - 3. शिक्षक ने
 - 4. विद्यार्थियों को

Question ID : 9895807153

Chosen Option : 2

Q.2
0 दिए गए वाक्य का वह भाग ज्ञात करें जिसमें कोई त्रुटि है।

आपकी भाषा में वर्तनी के भूल ज्यादा होने से उन्हें सुधारना कठिन है।

- Ans
- 1. वर्तनी के भूल
 - 2. आपकी भाषा में
 - 3. ज्यादा होने से
 - 4. उन्हें सुधारना कठिन है।

Question ID : 9895807152

Chosen Option : 1

Q.2
1 रिक्त स्थान को भरने के लिए उपयुक्त शब्द का चयन करें।

जैसा पहले था वैसा ही रहने को _____ कहते हैं।

- Ans
- 1. यथापूर्व
 - 2. अपूर्व
 - 3. भूतपूर्व
 - 4. अभूतपूर्व

Question ID : 9895807158

Chosen Option : 1

Q.2
2

रिक्त स्थान को भरने के लिए उपयुक्त शब्द का चयन करें।

साधन न रहते हुए भी काम करने की तीव्र _____ को साहस कहते हैं।

- Ans
- 1. इच्छा
 - 2. स्पर्धा
 - 3. आकांक्षा
 - 4. घमंड

Question ID : 9895807159
Chosen Option : 2

Q.2
3 'आकाश पाताल एक करना' मुहावरे का अर्थ है-

- Ans
- 1. असाधारण कार्य
 - 2. कठिन परिश्रम करना
 - 3. कठिनाई में दिखना
 - 4. कार्य करना

Question ID : 9895807171
Chosen Option : 2

Q.2
4 'यमुना' का पर्यायवाची शब्द है-

- Ans
- 1. सूर्यसुता
 - 2. भागीरथी
 - 3. नदी
 - 4. तनया

Question ID : 9895807169
Chosen Option : 4

Q.2
5 दिए गए वाक्य में रेखांकित खंड को प्रतिस्थापित करने के लिए उपयुक्त विकल्प का चयन करें।

समुद्र मंथन से अमृत की प्राप्ति हुई थी।

- Ans
- 1. विभा
 - 2. सुधा
 - 3. गरल
 - 4. तरल

Question ID : 9895807155
Chosen Option : 2

Constable (GD) in CAPFs, NIA, SSF and Rifleman (GD) in Assam Rifles Examination, 2018

Roll No. :	
Registration No.	
Name :	
Exam Venue :	
Exam Time :	12:30 PM - 2:00 PM
Exam Date :	09/03/2019

Section : General Section

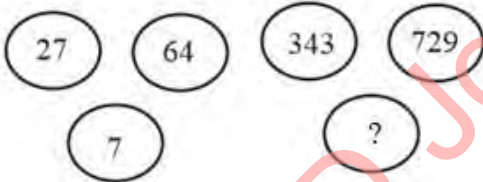
Q.1 उस विकल्प का चयन करें जो सही रूप में रिक्त स्थान की पूर्ति करते हुए श्रृंखला को पूरा करें।

J, N, R, V, _____

- Ans 1. Z
 2. D
 3. G
 4. V

Question ID : 9895809273
Chosen Option : 1

Q.2 दिए गए विकल्पों में से लुप्त संख्या ज्ञात करें।



- Ans 1. 8
 2. 25
 3. 16
 4. 9

Question ID : 9895809290
Chosen Option : 3

Q.3 यदि RAYMOND को 2795431 के रूप में और OLD को 461 के रूप में लिखते हैं, तो DALMO को कैसे लिखा जाएगा?

- Ans 1. 15764
 2. 17654
 3. 17653
 4. 15476

Question ID : 9895809280
Chosen Option : 2

Q.4

नीचे प्रश्न आकृति में दर्शाये गए तरीके से एक कागज को मोड़ा और काटा गया है। इस कागज को खोलने पर, दी गयी उत्तर आकृतियों में से कौन सी आकृति दिखाई देगी?



Ans

- 1.
- 2.
- 3.
- 4.

Question ID : 9895809296
Chosen Option : 3

Q.5 उस विकल्प का चयन करें जो सही रूप में रिक्त स्थान की पूर्ति करते हुए श्रृंखला को पूरा करें।

14, 21, 42, 105, 315, _____

Ans

1. 1102.5
2. 1302.5
3. 1202.5
4. 1002.5

Question ID : 9895809286
Chosen Option : 2

Q.6 उस विकल्प का चयन करें जो तीसरे पद से उसी तरह संबंधित है जिस प्रकार दूसरा पद पहले पद से संबंधित है।

12 : 62 :: 14 : _____

Ans

1. 75
2. 72
3. 70
4. 80

Question ID : 9895809288
Chosen Option : 2

Q.7 यदि '÷' का अर्थ '+', '-' का अर्थ 'x', 'x' का अर्थ '-', और '+' का अर्थ '÷', तो:

$$664 + 4 \div 34 \times 28 = ?$$

Ans

1. 172
2. 162
3. 185
4. 165

Question ID : 9895809291
Chosen Option : 1

Q.8 अनिल, सन्नी से लम्बा है जो बेबी से छोटा है। अनिल, बॉस से लम्बा है, जो सन्नी से छोटा है। बेबी, अनिल से छोटी है। यह बताइए कि कौन सबसे छोटा है?

Ans

✓ 1. बोस

✗ 2. अनिल

✗ 3. सन्नी

✗ 4. बेबी

Question ID : 9895809283

Chosen Option : 3

Q.9 एक निश्चित कूट भाषा में, FORMAT को CLOJXQ के रूप में कूटबद्ध किया जाता है। उस कूट भाषा में FONT कैसे कूटबद्ध किया जाता है?

Ans ✗ 1. CKLO

✓ 2. CLKQ

✗ 3. CLOQ

✗ 4. CKLQ

Question ID : 9895809279

Chosen Option : 2

Q.1 निम्नलिखित में से कौन सी उत्तर आकृति दी गई आकृति को पूरा करेगी?

प्रश्न आकृति:



Ans

✗ 1.

✗ 2.

✓ 3.

✗ 4.

Question ID : 9895809293

Chosen Option : 1

Q.1 दिए गए विकल्पों में से संबंधित शब्द युग्म का चयन करें।

एफिल टॉवर: फ्रांस :: _____ : _____

Ans ✓ 1. ताजमहल: भारत

✗ 2. अलहम्ब्रा: ब्राज़ील

✗ 3. ओपेरा हाउस: चीन

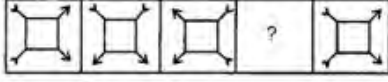
✗ 4. स्टैचू ऑफ लिबर्टी: ऑस्ट्रेलिया

Question ID : 9895809276

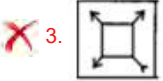
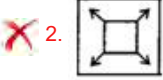
Chosen Option : 1

Q.1
2 वह विकल्प चुनें जो दी गई आकृति श्रृंखला को पूरा करता है

प्रश्न आकृति



Ans



Question ID : 9895809292
Chosen Option : 1

Q.1
3 नीचे दिए गए कथनों के बाद दो निष्कर्ष I और II दिए गए हैं। यह मानते हुए कि कथनों में दी गई जानकारी सत्य है, भले ही वह सर्वज्ञात तथ्यों से भिन्न प्रतीत होती हो और यह निर्णय करें कि कौन सा / से निष्कर्ष तार्किक और निश्चित रूप से कथन में दी गई जानकारी का अनुसरण करता है / करते हैं।

कथन:

सभी मकान, नदियाँ हैं।
सभी नदियाँ, जंगल हैं।
कोई जंगल फूल नहीं है।

निष्कर्ष:

- I. कोई मकान, फूल नहीं है।
II. कोई फूल, मकान नहीं है।

Ans

✓ 1. निष्कर्ष I और II दोनों अनुसरण करते हैं

✗ 2. केवल निष्कर्ष I अनुसरण करता है

✗ 3. या निष्कर्ष I या II अनुसरण करता है

✗ 4. केवल निष्कर्ष II अनुसरण करता है

Question ID : 9895809284
Chosen Option : 1

Q.1
4 दिए गए विकल्पों में से संबंधित शब्द युग्म का चयन करें।

एन्टोमोलॉजी: कीड़े :: _____ : _____

Ans

✗ 1. फिजियोलॉजी : पौधे

✗ 2. वायरोलॉजी : कवक

✗ 3. ऊर्लॉजी : शंख

✓ 4. फाइकोलॉजी : शैवाल

Question ID : 9895809277
Chosen Option : 2

Q.1
5 उस विकल्प का चयन करें जो दर्पण को दायीं ओर रखे जाने पर दि गई आकृति की दर्पण छवि से सर्वाधिक मेल खाता है।



Ans

- 1.
- 2.
- 3.
- 4.

Question ID : 9895809295
Chosen Option : 1

Q.1
6 चार विकल्प दिए गए हैं, जिनमें से तीन किसी तरह से समान हैं, जबकि एक अलग है। असंगत का चयन करें।

- Ans
1. 08-17
2. 13-12
3. 11-14
4. 14-13

Question ID : 9895809289
Chosen Option : 4

Q.1
7 वेन आरेख का चयन करें जो दिए गए तीन वर्गों के बीच के संबंध को सर्वोत्तम दर्शाता है।

ग्रह, पृथ्वी, सूर्य

- Ans
- 1.
- 2.
- 3.
- 4.

Question ID : 9895809297
Chosen Option : 1

Q.1
8 उस विकल्प का चयन करें जो तीसरे पद से उसी तरह संबंधित है जिस प्रकार दूसरा पद पहले पद से संबंधित है।

mmnrrstt : nnoostuu :: eefghhij : ?

- Ans
1. higgfijk
2. ffghhijk
3. fgghhijk

4. ffhgijjk

Question ID : 9895809278
Chosen Option : 2

Q.1 उस विकल्प आकृति का चयन करें, जिसमें प्रश्न आकृति छिपी हुई/ अंतर्निहित है।

प्रश्न आकृति:



Ans



Question ID : 9895809294
Chosen Option : 3

Q.2 A, B, C, D, E, F और G केंद्र की ओर मुख किये हुए एक वृत्त की चारों ओर बैठे हैं। D, A के बाएँ से तीसरे स्थान पर बैठा है जो की F के बाएँ दूसरे स्थान पर बैठा है। E, F या D का पड़ोसी नहीं है। C, B के बाएँ तीसरे स्थान पर बैठा है।

E की स्थिति F के संबंध में क्या है?

Ans

1. बाएँ से दूसरा

2. बाएँ से चौथा

3. बाएँ से तीसरा

4. जानकारी अपर्याप्त है

Question ID : 9895809282
Chosen Option : 2

Q.2 नीचे दिए गए कथनों के बाद दो निष्कर्ष I और II दिए गए हैं। यह मानते हुए कि कथनों में दी गई जानकारी सत्य है, भले ही वह सर्वज्ञात तथ्यों से भिन्न प्रतीत होती हो और यह निर्णय करें कि कौन सा / से निष्कर्ष तार्किक और निश्चित रूप से कथन में दी गई जानकारी का अनुसरण करता है / करते हैं।

कथन:

कुछ बिस्तर कुर्सियाँ हैं।

सभी कुर्सियाँ मेज़ हैं।

सभी मेज़ टेबल हैं।

निष्कर्ष:

I. कुछ टेबल बिस्तर हैं।

II. कुछ मेज़ बिस्तर हैं।

Ans

1. केवल निष्कर्ष I अनुसरण करता है

2. निष्कर्ष I और II दोनों अनुसरण करते हैं

✗ 3. केवल निष्कर्ष ॥ अनुसरण करता है

✗ 4. या निष्कर्ष । या ॥ अनुसरण करता है

Question ID : 9895809285

Chosen Option : 4

Q.2
2 चार शब्द दिए गए हैं, जिनमें से तीन किसी तरह से समान हैं, जबकि एक अलग है। असंगत शब्द का चयन करें।

Ans ✗ 1. साझेदारी

✗ 2. प्रोपराइटरशिप

✗ 3. व्यापारसंध

✓ 4. नौकरी

Question ID : 9895809275

Chosen Option : 1

Q.2
3 मोना, कनक, जॉन, हनी, ईशा और लारा एक सिनेमा घर में फिल्म देख रहे हैं जिसकी स्क्रीन, उत्तर में है। वे एक निश्चित प्रकार से बैठे हैं?

(i) केवल कनक, हनी और जॉन के बीच बैठी है।

(ii) लारा, मोना के दाएं बैठी है, जो बिल्कुल बाएं छोर पर बैठी है।

(iii) ईशा, जॉन के तुरंत दाएं है।

बिल्कुल दाएं छोर पर कौन बैठा/ बैठी है?

Ans ✗ 1. कनक

✗ 2. हनी

✗ 3. जॉन

✓ 4. ईशा

Question ID : 9895809281

Chosen Option : 3

Q.2
4 उस विकल्प का चयन करें जो सही रूप में रिक्त स्थान की पूर्ति करते हुए श्रृंखला को पूरा करें।

25, 100, 200, 800, 1600, _____

Ans ✗ 1. 6600

✗ 2. 8400

✓ 3. 6400

✗ 4. 7400

Question ID : 9895809287

Chosen Option : 3

Q.2
5 चार अक्षर समूह दिए गए हैं, जिनमें से तीन किसी तरह से समान हैं, जबकि एक अलग है। असंगत अक्षर समूह का चयन करें।

Ans ✗ 1. UBC

✗ 2. RYZ

✓ 3. FGM

4. IPQ

Question ID : 9895809274
Chosen Option : 3

Q.2
6 शैवाल मानव जाति के लिए उपयोगी हैं क्योंकि ये:

- Ans
- 1. ऑक्सीजन के निर्माण में सहायक होते हैं।
 - 2. गंदे स्थानों को साफ करने में मददगार होते हैं।
 - 3. ओज़ोन परत बनाने में सहायक होते हैं।
 - 4. कार्बन डाइऑक्साइड के निर्माण में सहायक होते हैं।

Question ID : 9895809462
Chosen Option : 1

Q.2
7 कुम्भ मेला 2019 का आयोजन गंगा, यमुना और _____ नदी के संगम स्थल पर किया गया।

- Ans
- 1. कावेरी
 - 2. गोदावरी
 - 3. सरस्वती
 - 4. ब्रह्मपुत्र

Question ID : 9895809450
Chosen Option : 2

Q.2
8 पर्यावरण की रक्षा के लिए तीन R हैं:

- Ans
- 1. रिपेयर, रिसाइकल, रीयूज़
 - 2. रिड्यूंस, रिसाइकल, रिपेयर
 - 3. रिड्यूंस, रिपेयर, रीयूज़
 - 4. रिड्यूंस, रिसाइकल, रीयूज़

Question ID : 9895809469
Chosen Option : 2

Q.2
9 स्वतंत्रता के अधिकार की गारंटी की अनुच्छेद में दी गई है?

- Ans
- 1. 19
 - 2. 21
 - 3. 11
 - 4. 15

Question ID : 9895809461
Chosen Option : 1

Q.3
0 राजकोषीय नीति और फेडरल रिजर्व समान कैसे हैं?

- Ans
- 1. पारित करने से पहले उन्हें हमेशा कांग्रेस की मंजूरी चाहिए।

✗ 2.

वे दोनों आर्थिक समस्याओं को ठीक करने के लिए एक ही साधन का उपयोग करते हैं।

✗ 3.

इन दोनों के पास बोर्ड ऑफ गवर्नर हैं।

✓ 4.

वे दोनों आर्थिक स्थिरता को बढ़ावा देने की कोशिश करते हैं।

Question ID : 9895809458

Chosen Option : 1

Q.3
1 अम्लीय एवं क्षारीय तत्वों के निर्धारण के लिए हम लिटमस पत्र अथवा _____ का उपयोग कर सकते हैं।

Ans ✗ 1. लवण

✗ 2. शर्करा

✗ 3. सोडा एश

✓ 4. हल्दी

Question ID : 9895809463

Chosen Option : 3

Q.3
2 हाल ही में चेन्नई के डीएमके नेता _____ की प्रतिमा का अनावरण किया गया।

Ans ✗ 1. एम.जी. रामचंद्रन

✗ 2. जे. जयललिता

✗ 3. एम.के. स्टालिन

✓ 4. एम. करुणानिधि

Question ID : 9895809455

Chosen Option : 4

Q.3
3 भारतीय रिज़र्व बैंक की मौद्रिक नीति का मुख्य उद्देश्य _____ को बनाए रखना होता है।

Ans ✗ 1. विनिमय दर

✗ 2. विकास

✗ 3. संपत्ति

✓ 4. मूल्य स्थिरता

Question ID : 9895809456

Chosen Option : 2

Q.3
4 भारतीय संविधान में धार्मिक स्वतंत्रता के अधिकार का उद्देश्य क्या है?

Ans ✗ 1. पूंजीवाद के सिद्धांत को बनाए रखना

✓ 2. धर्मनिरपेक्षता के सिद्धांत को बनाए रखना

✗ 3. मितव्ययिता के सिद्धांत को बनाए रखना

✗ 4. संघवाद के सिद्धांत को बनाए रखना

Question ID : 9895809460

Chosen Option : 2

Q.3 5 प्रजनन में अन्तर्निहित भिन्नता लैंगिक प्रजनन और _____ की विफलता के कारण होती है।

- Ans
- 1. DNA के काँपी होने
 - 2. DNA गुणन
 - 3. DNA मिलान
 - 4. DNA विभाजन

Question ID : 9895809465
Chosen Option : 2

Q.3 6 सत्याग्रह की शक्ति ने किस शक्ति पर जोर दिया?

- Ans
- 1. गरीबी
 - 2. सत्य
 - 3. दुर्बलता
 - 4. क्षमता

Question ID : 9895809471
Chosen Option : 1

Q.3 7 ओलिंपिक काउंसिल ऑफ एशिया (OCA) ने किस जापानी महिला तैराक को 2018 जकार्ता और पालेमबांग एशियाई खेलों में सर्वाधिक मूल्यवान खिलाड़ी (MVP) ट्रॉफी अवार्ड के विजेता के रूप में चुना है?

- Ans
- 1. कट्सुमी नाकामुरा
 - 2. रिकाको आइकी
 - 3. झांग लिन
 - 4. रयोसुके आइअर

Question ID : 9895809452
Chosen Option : 4

Q.3 8 हाल में घोषित बैंक विलय में विजया बैंक, देना बैंक और _____ शामिल हैं।

- Ans
- 1. इंडियन ओवरसीज़ बैंक
 - 2. बैंक ऑफ बड़ौदा
 - 3. भारतीय स्टेट बैंक
 - 4. स्टेट बैंक ऑफ मैसूर

Question ID : 9895809457
Chosen Option : 3

Q.3 9 ICC विश्व कप 2019 तक भारतीय क्रिकेट टीम के नए मुख्य कोच कौन हैं?

- Ans
- 1. कपिल देव
 - 2. रवि शास्त्री
 - 3. सुनील गावस्कर

4. अनिल कुंबले

Question ID : 9895809451
Chosen Option : 2

Q.4
0 जलियांवाला बाग कांड कहाँ हुआ था?

- Ans
- 1. कश्मीर
 - 2. दिल्ली
 - 3. केरल
 - 4. पंजाब

Question ID : 9895809472
Chosen Option : 2

Q.4
1 भारतीय संविधान के अनुसार इंडिया को _____ के रूप में भी जाना जाता है।

- Ans
- 1. दक्षिण एशिया
 - 2. आर्यावर्त
 - 3. भारत
 - 4. हिंदुस्तान

Question ID : 9895809459
Chosen Option : 4

Q.4
2 परिवहन का सबसे सस्ता साधन क्या है?

- Ans
- 1. जलमार्ग
 - 2. सड़क मार्ग
 - 3. वायुमार्ग
 - 4. रेलमार्ग

Question ID : 9895809467
Chosen Option : 4

Q.4
3 स्थलीय परिस्थितिकी में हरे पेड़ पौधे सूर्य के प्रकाश की ऊर्जा का लगभग _____ ग्रहण करते हैं।

- Ans
- 1. 4%
 - 2. 2%
 - 3. 3%
 - 4. 1%

Question ID : 9895809468
Chosen Option : 2

Q.4
4 2017 के लिए अंग्रेजी के साहित्य अकादमी पुरस्कार विजेता कौन थे?

- Ans
- 1. राणा अयूब

2. शशि थरूर
3. चेतन भगत
4. ममांग दई

Question ID : 9895809453
Chosen Option : 3

Q.4 5 निर्जन वन प्रान्तों में उगने वाले बिच्छू-बूटी के पौधे अपनी सुरक्षा के लिए _____ का उपयोग करते हैं।

- Ans 1. काँटे
2. स्प्रे
3. गंध
4. रोयें

Question ID : 9895809464
Chosen Option : 2

Q.4 6 'ओडुंथुल्लल' नृत्य शैली किस राज्य से संबंधित है?

- Ans 1. आंध्रप्रदेश
2. मणिपुर
3. तमिलनाडु
4. केरल

Question ID : 9895809448
Chosen Option : 3

Q.4 7 _____ को ब्रिटिश शासन से पहले भूमि की माप की एक इकाई के रूप में जाना जाता था। बंगाल में भूमि का आकार विविध था, अंग्रेजों ने इसे एकड़ के लगभग एक-तिहाई के रूप में का मानकीकृत किया।

- Ans 1. फैथम
2. पेस
3. लिक
4. बीघा

Question ID : 9895809470
Chosen Option : 4

Q.4 8 लोकप्रिय गायक केदारनाथ भट्टाचार्य किस नाम से अधिक विख्यात हैं?

- Ans 1. किशोर कुमार
2. बप्पी लाहिड़ी
3. अरिजीत सिंह
4. कुमार सानू

Question ID : 9895809449
Chosen Option : 2

Q.4 हम विद्युत् चालक में विद्युत् धारा की तुलना _____ से कर सकते हैं।

- Ans
- 1. इंटर-सिटी रेल यात्रा
 - 2. नदी में जल धाराओं
 - 3. एक शहर में बस यात्रा
 - 4. सड़क पर चल रहे लोगों

Question ID : 9895809466
Chosen Option : 2

Q.5 हाल ही में आई एक पुस्तक और फिल्म 'द एक्सीडेंटल प्राइम मिनिस्टर' में मुख्य किरदार कौन हैं?

- Ans
- 1. मनमोहन सिंह
 - 2. इंदिरा गाँधी
 - 3. राहुल गाँधी
 - 4. नरेन्द्र मोदी

Question ID : 9895809454
Chosen Option : 3

Q.5 X काम करने में Y से दोगुना अच्छा है। वे एक साथ 18 दिन में काम पूरा कर देते हैं। अलग-अलग उस कार्य को पूरा करने में प्रत्येक को कितना दिन लगेगा?

- Ans
- 1. X = 19 दिन, Y = 38 दिन
 - 2. X = 9 दिन, Y = 18 दिन
 - 3. X = 27 दिन, Y = 54 दिन
 - 4. X = 21 दिन, Y = 42 दिन

Question ID : 9895809638
Chosen Option : 2

Q.5 779, 943 और 123 का लघुत्तम समापवर्त्य _____ है।

- Ans
- 1. 53751
 - 2. 71668
 - 3. 17917
 - 4. 35834

Question ID : 9895809623
Chosen Option : 3

Q.5 एक दुकानदार शुक्रवार को एक बिक्री का आयोजन करता है, जिसमें सभी वस्तुओं पर 23% की छूट दी जाती है। फिर भी, उसे केवल 10% का लाभ होता है। क्रय मूल्य अंकित मूल्य से कितना प्रतिशत कम था?

Ans

- 1. 30%
- 2. 15%
- 3. 10%
- 4. 20%

Question ID : 9895809628
Chosen Option : 1

Q.5 एक खोखले बेलन की बाहरी त्रिज्या 4 cm और ऊंचाई 2 cm है, 1 cm मोटी धातु शीट से बना है। प्रयुक्त धातु का आयतन क्या है? ($\pi = \frac{22}{7}$, लीजिए)

- Ans
- 1. 56 cm³
 - 2. 40 cm³
 - 3. 44 cm³
 - 4. 65 cm³

Question ID : 9895809644
Chosen Option : 1

Q.5 निम्नलिखित समीकरण में प्रश्न चिह्न (?) के स्थान पर क्या लगभग मान आना चाहिए?
5 $\frac{1}{6}$ का $(\frac{1}{3}$ का $\frac{1}{9}$ का $\frac{1}{9} + \frac{1}{9}) = ?$

- Ans
- 1. $\frac{1}{9}$
 - 2. $\frac{1}{3}$
 - 3. $\frac{1}{2}$
 - 4. $\frac{1}{6}$

Question ID : 9895809625
Chosen Option : 3

Q.5 $\frac{1}{10} \times \frac{1}{20}$ का $\frac{4}{5} \div \frac{4}{5} = ?$

- Ans
- 1. $\frac{1}{2}$
 - 2. $\frac{1}{15}$
 - 3. $\frac{1}{5}$
 - 4. $\frac{1}{10}$

Question ID : 9895809624
Chosen Option : 4

Q.5 एक व्यक्ति किसी वस्तु को 20% के लाभ पर बेचना चाहता है लेकिन उसने इसे 20% की हानि पर ₹ 480 में बेचा।
7 आवश्यक लाभ प्राप्त करने के लिए उसे किस मूल्य पर बेचना चाहिए था?

Ans

1. ₹ 840
 2. ₹ 750
 3. ₹ 720
 4. ₹ 600

Question ID : 9895809631
Chosen Option : 3

Q.5 एक वितरण का बहुलक 24 और माध्य 60 है। उसकी माध्यिका क्या है?
8

Ans

1. 48
 2. 51
 3. 50
 4. 45

Question ID : 9895809629
Chosen Option : 2

Q.5 15 m त्रिज्या के गोलाकार उद्यान में, ₹ 24 प्रति sq. m की दर से बगीचे के अंदर 2 m चौड़े मार्ग का निर्माण किया
9 जाना है। मार्ग बनाने की लागत कितनी होगी? ($\pi = \frac{22}{7}$, लीजिए)

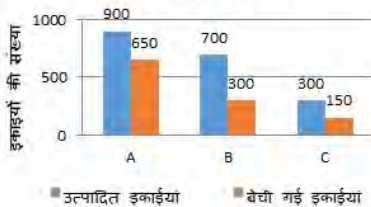
Ans

1. ₹ 4355
 2. ₹ 4100
 3. ₹ 4224
 4. ₹ 3864

Question ID : 9895809642
Chosen Option : 3

Q.6 नीचे दिए गए प्रश्नों के उत्तर देने के लिए निम्नलिखित ग्राफ का ध्यानपूर्वक अध्ययन करें।
0

किसी महीने में विभिन्न कंपनियों के
लैपटॉप का उत्पादन और बिक्री



सभी कंपनियों के द्वारा कुल उत्पादन का औसत क्या है?

Ans

1. $633\frac{1}{3}$
 2. $625\frac{1}{3}$
 3. $633\frac{2}{3}$

4. $623\frac{1}{3}$

Question ID : 9895809647
Chosen Option : 1

Q.6
1 यदि A का 20% B का 35% तो A : B = _____

- Ans
- 1. 1 : 2
 - 2. 2 : 3
 - 3. 5 : 7
 - 4. 7 : 4

Question ID : 9895809633
Chosen Option : 4

Q.6
2 A, B और C एक काम को ₹ 550 में पूरा करने का ठेका लेते हैं। यदि A और B मिलकर काम का $\frac{7}{11}$ भाग पूरा करते हैं, तो C का हिस्सा क्या है?

- Ans
- 1. ₹ 150
 - 2. ₹ 200
 - 3. ₹ 100
 - 4. ₹ 210

Question ID : 9895809639
Chosen Option : 2

Q.6
3 यदि ₹ 2000 की मूलधन को 10% वार्षिक दर से चक्रवृद्धि ब्याज पर उधार में दिया जाता है, तो दूसरे वर्ष का ब्याज क्या होगा?

- Ans
- 1. ₹ 225
 - 2. ₹ 200
 - 3. ₹ 440
 - 4. ₹ 220

Question ID : 9895809637
Chosen Option : 3

Q.6
4 12% के साधारण वार्षिक ब्याज दर से ₹ 500 और 10% के साधारण वार्षिक ब्याज दर से एक निश्चित राशि निवेश की गई है। यदि 4 वर्ष पश्चात दोनों निवेश की गयी राशि का कुल ब्याज ₹ 480 है, तो द्वितीय निवेशित राशि कितनी है?

- Ans
- 1. ₹ 450
 - 2. ₹ 550
 - 3. ₹ 600

4. ₹ 750

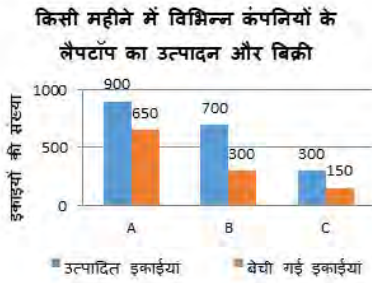
Question ID : 9895809636
Chosen Option : 1

Q.6 समांतर चतुर्भुज की दो समीपवर्ती भुजा 12 cm और 9 cm हैं। और एक कोण 30° है। समांतर चतुर्भुज का क्षेत्रफल
5 ज्ञात कीजिए।

- Ans
- 1. 96 sq. cm
 - 2. 27 sq. cm
 - 3. 108 sq. cm
 - 4. 54 sq. cm

Question ID : 9895809643
Chosen Option : 4

Q.6 नीचे दिए गए प्रश्नों के उत्तर देने के लिए निम्नलिखित ग्राफ का ध्यानपूर्वक अध्ययन करें।



किस कंपनी की प्रतिशत बिक्री उसके उत्पादन के सापेक्ष 40% और 43% के बीच है?

- Ans
- 1. C
 - 2. A
 - 3. B
 - 4. B तथा C दोनों

Question ID : 9895809646
Chosen Option : 2

Q.6 2 संख्याओं का औसत ab है। यदि संख्या में से एक a है, तो दूसरी _____ है।

- Ans
- 1. $2b - a$
 - 2. $2ab - a$
 - 3. $2ab - b$
 - 4. $2a - b$

Question ID : 9895809626
Chosen Option : 2

Q.6 महेश और अजय की वर्तमान आयु का अनुपात 3 : 2 है। 8 वर्ष के बाद उनकी आयु का अनुपात 11 : 8 हो जाएगा।
8 महेश के पुत्र की वर्तमान आयु क्या होगी यदि उस की आयु अजय की वर्तमान आयु से आधी है?

Ans

1. 18 वर्ष

2. 16 वर्ष

3. 12 वर्ष

4. 15 वर्ष

Question ID : 9895809635
Chosen Option : 3

Q.6 एक निश्चित दूरी को तय करने में A और B द्वारा लिए गए समय का अनुपात 7 : 9 है। उनकी क्रमशः चालों का अनुपात क्या होगा?

Ans 1. 7 : 3

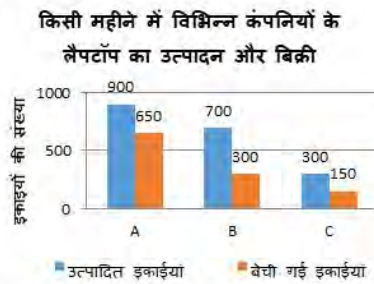
2. 7 : 9

3. 3 : 7

4. 9 : 7

Question ID : 9895809640
Chosen Option : 4

Q.7 नीचे दिए गए प्रश्नों के उत्तर देने के लिए निम्नलिखित ग्राफ का ध्यानपूर्वक अध्ययन करें।



सभी कंपनियों के द्वारा बेची गई कुल लैपटॉप की इकाइयों की औसत संख्या है:

Ans 1. $391\frac{2}{3}$

2. $410\frac{2}{3}$

3. $366\frac{2}{3}$

4. $366\frac{1}{3}$

Question ID : 9895809645
Chosen Option : 3

Q.7 ट्रेन A 50 km की दूरी 30 मिनट में तय करती है। यदि ट्रेन B की चाल, ट्रेन A की चाल से 40% अधिक है, तो क्रमशः दोनों ट्रेन की चालों का अनुपात _____ है।

Ans 1. 5 : 7

2. 3 : 5

3. 5 : 3

4. 7 : 5

Question ID : 9895809641
Chosen Option : 1

Q.7 4 वयस्कों और कुछ नाबालिगों के परिवार में, प्रति माह प्रति व्यक्ति चावल की औसत खपत 8.5 kg है, जबकि
2 वयस्कों के लिए औसत खपत 10 kg प्रति व्यक्ति है और नाबालिगों के लिए यह 5.5 kg प्रति व्यक्ति है। परिवार में नाबालिगों की संख्या _____ है।

Ans

1. 4

2. 2

3. 5

4. 3

Question ID : 9895809627
Chosen Option : --

Q.7 यदि किसी संख्या का 50% किसी दूसरे संख्या के तीन चौथाई के बराबर है, तो संख्याओं के बीच का अनुपात क्या है?
3

Ans

1. 3 : 2

2. 2 : 5

3. 3 : 4

4. 5 : 2

Question ID : 9895809630
Chosen Option : 3

Q.7 जब एक साइकिल की कीमत में 20% की कमी होती है, तब बिक्री में 20% की वृद्धि होती है, तो कुल राजस्व पर
4 क्या प्रभाव पड़ता है?

Ans

1. न लाभ न हानि

2. 5% लाभ

3. 4% हानि

4. 4% लाभ

Question ID : 9895809632
Chosen Option : 3

Q.7 एक त्रिभुज की भुजाएँ 6 : 4 : 3 के अनुपात में हैं और इसका परिमाण 104 cm है। सबसे लम्बी भुजा की लंबाई
5 (cm) _____ है।

Ans

1. 48

2. 44

3. 56

4. 120

Question ID : 9895809634

Chosen Option : 1

Section : English Language

Q.1 Select the synonym of the given word.

ANNOY

Ans 1. Please

2. Irritate

3. Satisfy

4. Gratify

Question ID : 9895809814

Chosen Option : --

Q.2 Select the synonym of the given word.

ATTAIN

Ans 1. Lose

2. Prosper

3. Abandon

4. Achieve

Question ID : 9895809815

Chosen Option : --

Q.3 Select the antonym of the given word.

EVIDENT

Ans 1. Conspicuous

2. Apparent

3. Noticeable

4. Obscure

Question ID : 9895809817

Chosen Option : --

Q.4 Identify the segment in the sentence which contains the grammatical error from the given options.

Sujata and Kavita were sent to buy groceries for their neighborhood shop.

Ans 1. to buy

2. for their

3. were sent

✓ 4. Sujata and Kavita

Question ID : 9895809801
Chosen Option : --

Q.5 Select the wrongly spelt word.

- Ans
- 1. Guarantee
 - 2. Grandeur
 - 3. Government
 - 4. Grateful

Question ID : 9895809823
Chosen Option : --

Q.6 Identify the segment in the sentence which contains the grammatical error from the given options.

In clinics, you may have noticed sales representatives waiting with doctors.

- Ans
- 1. sales representatives
 - 2. waiting with
 - 3. may have noticed
 - 4. In clinics

Question ID : 9895809802
Chosen Option : --

Q.7 Select the wrongly spelt word.

- Ans
- 1. Grievous
 - 2. Glamourous
 - 3. Gauge
 - 4. Grandure

Question ID : 9895809822
Chosen Option : --

Q.8 Select the most appropriate option to substitute the underlined segment in the given sentence. If there is no need to substitute it, select No substitution required.

The merchant distributes work among the weavers based on the orders received.

- Ans
- 1. between weaver
 - 2. No substitution required
 - 3. among all of the weavers
 - 4. among weaver

Question ID : 9895809805
Chosen Option : --

Q.9 Select the meaning of the given idiom.

To beat about the bush

- Ans
- 1. To talk too much

- 2. To avoid coming to the point
- 3. To be aggressive
- 4. To punish an innocent person

Question ID : 9895809819
Chosen Option : --

Q.1
0 Select the most appropriate option to substitute the underlined segment in the given sentence. If there is no need to substitute it, select No substitution required.

People in urban areas could have enter markets without stepping out of their homes via the Internet.

- Ans
- 1. No substitution required
 - 2. can enter markets
 - 3. could entered markets
 - 4. can entered markets

Question ID : 9895809803
Chosen Option : --

Comprehension:

In the following passage some words have been deleted. Fill in the blanks with the help of the alternatives given. Select the most appropriate option for each number.

A dam is built across a river at sites where one can (1) _____ a lot of water. This forms (2) _____ reservoir and as the water collects, it (3) _____ vast areas of land. This is (4) _____ the wall of the dam across the river is high and the (5) _____ spreads over a large area.

SubQuestion No : 11

Q.1
1 Select the most appropriate option that will fill in the blank number 1

- Ans
- 1. flow
 - 2. dispose
 - 3. collect
 - 4. assemble

Question ID : 9895809809
Chosen Option : --

Comprehension:

In the following passage some words have been deleted. Fill in the blanks with the help of the alternatives given. Select the most appropriate option for each number.

A dam is built across a river at sites where one can (1) _____ a lot of water. This forms (2) _____ reservoir and as the water collects, it (3) _____ vast areas of land. This is (4) _____ the wall of the dam across the river is high and the (5) _____ spreads over a large area.

SubQuestion No : 12

Q.1
2

Select the most appropriate option that will fill in the blank

number 2

- Ans
- 1. one
 - 2. an
 - 3. a
 - 4. the

Question ID : 9895809810

Chosen Option : --

Comprehension:

In the following passage some words have been deleted. Fill in the blanks with the help of the alternatives given. Select the most appropriate option for each number.

A dam is built across a river at sites where one can (1) _____ a lot of water. This forms (2) _____ reservoir and as the water collects, it (3) _____ vast areas of land. This is (4) _____ the wall of the dam across the river is high and the (5) _____ spreads over a large area.

SubQuestion No : 13

Q.1 Select the most appropriate option that will fill in the blank

number 3

- Ans
- 1. divides
 - 2. ruins
 - 3. separates
 - 4. submerges

Question ID : 9895809811

Chosen Option : --

Comprehension:

In the following passage some words have been deleted. Fill in the blanks with the help of the alternatives given. Select the most appropriate option for each number.

A dam is built across a river at sites where one can (1) _____ a lot of water. This forms (2) _____ reservoir and as the water collects, it (3) _____ vast areas of land. This is (4) _____ the wall of the dam across the river is high and the (5) _____ spreads over a large area.

SubQuestion No : 14

Q.1 Select the most appropriate option that will fill in the blank

number 4

- Ans
- 1. yet
 - 2. because
 - 3. though
 - 4. so

Question ID : 9895809812

Comprehension:

In the following passage some words have been deleted. Fill in the blanks with the help of the alternatives given. Select the most appropriate option for each number.

A dam is built across a river at sites where one can (1) _____ a lot of water. This forms (2) _____ reservoir and as the water collects, it (3) _____ vast areas of land. This is (4) _____ the wall of the dam across the river is high and the (5) _____ spreads over a large area.

SubQuestion No : 15

Q.1
5 Select the most appropriate option that will fill in the blank number 5

- Ans
- 1. river
 - 2. dam
 - 3. land
 - 4. water

Question ID : 9895809813

Chosen Option : --

Q.1
6 Select the word which means the same as the group of words given.

A solution or remedy for all difficulties or diseases.

- Ans
- 1. Dilemma
 - 2. Ailment
 - 3. Riddle
 - 4. Panacea

Question ID : 9895809821

Chosen Option : --

Q.1
7 Select the most appropriate word to fill in the blank.

When dams are built, thousands of people _____.

- Ans
- 1. were displaced
 - 2. was displaced
 - 3. are displaced
 - 4. is displaced

Question ID : 9895809807

Chosen Option : --

Q.1
8 Select the most appropriate option to substitute the underlined segment in the given sentence. If there is no need to substitute it, select No substitution required.

Very often, the small farmers needed to borrowed money to meet high expenses.

- Ans
- 1. No substitution required
 - 2. needing to borrow

- 3. needs to borrow
- 4. need to borrow

Question ID : 9895809804
Chosen Option : --

Q.1
9 Select the antonym of the given word.

MOURNFUL

- Ans
- 1. Sorrowful
 - 2. Depressed
 - 3. Melancholy
 - 4. Joyous

Question ID : 9895809816
Chosen Option : --

Q.2
0 Select the word which means the same as the group of words given.

A person of unconventional and slightly strange views or behaviour

- Ans
- 1. Traditional
 - 2. Conventional
 - 3. Eccentric
 - 4. Wholesome

Question ID : 9895809820
Chosen Option : --

Q.2
1 Select the meaning of the given idiom.

To take heart

- Ans
- 1. To love everyone
 - 2. To be emotional
 - 3. To gain confidence
 - 4. To take matter seriously

Question ID : 9895809818
Chosen Option : --

Q.2
2 Select the most appropriate word to fill in the blank.

The wages of daily workers are fixed according _____ their skills.

- Ans
- 1. to
 - 2. with
 - 3. from
 - 4. of

Question ID : 9895809806
Chosen Option : --

Q.2
3 Select the most appropriate word to fill in the blank.

By her _____ manner, she made herself liked by everyone who met her.

- Ans
- 1. sublime
 - 2. curious
 - 3. winsome
 - 4. victorious

Question ID : 9895809825
Chosen Option : --

Q.2
4 Identify the segment in the sentence which contains the grammatical error from the given options.

One of the advantages of weekly markets is that much things are available at one place.

- Ans
- 1. much things
 - 2. weekly markets
 - 3. one place
 - 4. One of the

Question ID : 9895809800
Chosen Option : --

Q.2
5 Select the most appropriate word to fill in the blank.

All attempts to _____ our late leader have failed. People still love him and cherish his memory.

- Ans
- 1. demolish
 - 2. damage
 - 3. distress
 - 4. defame

Question ID : 9895809824
Chosen Option : --

Section : Hindi Language

Q.1 दिए गए वाक्य का वह भाग ज्ञात करें जिसमें कोई त्रुटि है।

गाँधी जी वकालत छोड़कर देश के स्वतंत्रता संग्राम पर कूद पड़े।

- Ans
- 1. स्वतंत्रता संग्राम पर कूद पड़े।
 - 2. वकालत छोड़कर
 - 3. देश के
 - 4. गाँधी जी

Question ID : 9895809931
Chosen Option : 3

Q.2 सही वर्तनी वाले शब्द का चयन करें।

Ans

1. औदार

2. औदारिता

3. ओदार्य

4. औदार्य

Question ID : 9895809954

Chosen Option : 4

Q.3 दिए गए वाक्य में रेखांकित खंड को प्रतिस्थापित करने के लिए उपयुक्त विकल्प का चयन करें।

हमारे विद्यालय में वर्ष में एक बार होने वाले समारोह की तैयारियाँ हो रही हैं।

Ans 1. त्रिमासिक

2. त्रयोदशी

3. वार्षिक

4. अर्द्धवार्षिक

Question ID : 9895809935

Chosen Option : 3

Q.4 'जिसे छोड़ा न जा सके' के लिए एक शब्द प्रयुक्त होता है-

Ans 1. असामान्य

2. कठिन

3. अपरिहार्य

4. असाधारण

Question ID : 9895809953

Chosen Option : 2

Q.5 'आँखे फेर लेना' मुहावरे का अर्थ है-

Ans 1. क्रोधित होना

2. प्रतिकूल होना

3. गुस्सा होना

4. धोखा देना

Question ID : 9895809950

Chosen Option : 4

Q.6 दिए गए वाक्य में रेखांकित खंड को प्रतिस्थापित करने के लिए उपयुक्त विकल्प का चयन करें।

आगरा का ताजमहल ऐतिहासिक है, जो देखने योग्य है।

Ans 1. सर्वप्रिय

2. दिखावटी

3. ऐतिहासिक

✓ 4. दर्शनीय

Question ID : 9895809933
Chosen Option : 4

Q.7 'विधि' शब्द का विलोम शब्द है-

- Ans
- ✓ 1. निषेध
 - ✗ 2. नकारात्मक
 - ✗ 3. दंड
 - ✗ 4. निधि

Question ID : 9895809946
Chosen Option : 1

Q.8 सही वर्तनी वाले शब्द का चयन करें।

- Ans
- ✗ 1. अवश्यकता
 - ✗ 2. आवस्यकता
 - ✓ 3. आवश्यकता
 - ✗ 4. अवस्यकता

Question ID : 9895809955
Chosen Option : 3

Q.9 'कल पड़ना' मुहावरे का अर्थ है-

- Ans
- ✗ 1. अस्थिर होना
 - ✗ 2. पश्चाताप करना
 - ✓ 3. चैन मिलना
 - ✗ 4. चुप रहना

Question ID : 9895809951
Chosen Option : 2

Q.10 रिक्त स्थान को भरने के लिए उपयुक्त शब्द का चयन करें।

जो अपराध करता है, वह _____ है।

- Ans
- ✗ 1. समझदार
 - ✗ 2. बुद्धिमान
 - ✓ 3. दण्डनीय
 - ✗ 4. होशियार

Question ID : 9895809937
Chosen Option : 3

Q.11 दिए गए वाक्य का वह भाग ज्ञात करें जिसमें कोई त्रुटि है।

घटना के समय वह सोने में जाने वाली थी किन्तु न जा सकी।

- Ans
- 1. जाने वाली थी
 - 2. वह सोने में
 - 3. किन्तु न जा सकी।
 - 4. घटना के समय

Question ID : 9895809930
Chosen Option : 3

Q.1
2 'सम्पत्ति' शब्द का विलोम शब्द है-

- Ans
- 1. धन
 - 2. कष्ट
 - 3. समस्या
 - 4. विपत्ति

Question ID : 9895809947
Chosen Option : 4

Q.1
3 रिक्त स्थान को भरने के लिए उपयुक्त शब्द का चयन करें।

उसने परीक्षा दी, किंतु उसे _____ नहीं मिली।

- Ans
- 1. तारीख
 - 2. सफलता
 - 3. प्रतिभा
 - 4. योग्यता

Question ID : 9895809939
Chosen Option : 2

Q.1
4 दिए गए वाक्य में रेखांकित खंड को प्रतिस्थापित करने के लिए उपयुक्त विकल्प का चयन करें।

राम और श्याम दोनों साथ काम करने वाले हैं।

- Ans
- 1. सहपाठी
 - 2. सहकर्मी
 - 3. दूरदर्शी
 - 4. दुराचारी

Question ID : 9895809934
Chosen Option : 2

Comprehension:

निम्नलिखित गद्यांश के रिक्त स्थानों की पूर्ति गद्यांश के नीचे दिए गए प्रश्नों के अनुसार कीजिए -

एक बार ऐसा हुआ कि गुजरात देश में बड़ा _____ (1) अकाल पड़ा। उन दिनों गुजरात में कवि भारवि रहते थे। उन्होंने सोचा इस अकाल में चलकर राजा भोज की ही _____ (2) लें, वह विद्वानों का _____ (3) करता है और धन भी देता है। कवि की स्त्री को यह बात _____ (4) आई और दोनों स्त्री-पुरुष राजा भोज के _____ (5) में जाने के लिए निकल पड़े।

SubQuestion No : 15

Q.1 गद्यांश में संकेतित रिक्त स्थान (1) के लिए उपयुक्त शब्द होगा-

- Ans
- 1. अनिश्चित
 - 2. भारी
 - 3. हलका
 - 4. निश्चित

Question ID : 9895809941
Chosen Option : 1

Comprehension:

निम्नलिखित गद्यांश के रिक्त स्थानों की पूर्ति गद्यांश के नीचे दिए गए प्रश्नों के अनुसार कीजिए -

एक बार ऐसा हुआ कि गुजरात देश में बड़ा _____ (1) अकाल पड़ा। उन दिनों गुजरात में कवि भारवि रहते थे। उन्होंने सोचा इस अकाल में चलकर राजा भोज की ही _____ (2) लें, वह विद्वानों का _____ (3) करता है और धन भी देता है। कवि की स्त्री को यह बात _____ (4) आई और दोनों स्त्री-पुरुष राजा भोज के _____ (5) में जाने के लिए निकल पड़े।

SubQuestion No : 16

Q.1
6 गद्यांश में संकेतित रिक्त स्थान (2) के लिए
उपयुक्त शब्द होगा-

- Ans
- 1. खबर
 - 2. शरण
 - 3. समाचार
 - 4. सूचना

Question ID : 9895809942
Chosen Option : 1

Comprehension:

निम्नलिखित गद्यांश के रिक्त स्थानों की
पूर्ति गद्यांश के नीचे दिए गए प्रश्नों के
अनुसार कीजिए -

एक बार ऐसा हुआ कि गुजरात देश में बड़ा
_____ (1) अकाल पड़ा। उन दिनों
गुजरात में कवि भारवि रहते थे। उन्होंने
सोचा इस अकाल में चलकर राजा भोज की
ही _____ (2) लें, वह विद्वानों का
_____ (3) करता है और धन भी देता
है। कवि की स्त्री को यह बात _____
(4) आई और दोनों स्त्री-पुरुष राजा भोज के
_____ (5) में जाने के लिए निकल पड़े।

SubQuestion No : 17

Q.1
7 गद्यांश में संकेतित रिक्त स्थान (3) के लिए
उपयुक्त शब्द होगा-

- Ans
- 1. निरादर
 - 2. तिरस्कार
 - 3. अपमान
 - 4. आदर

Question ID : 9895809943
Chosen Option : 2

Comprehension:

निम्नलिखित गद्यांश के रिक्त स्थानों की पूर्ति गद्यांश के नीचे दिए गए प्रश्नों के अनुसार कीजिए -

एक बार ऐसा हुआ कि गुजरात देश में बड़ा _____ (1) अकाल पड़ा। उन दिनों गुजरात में कवि भारवि रहते थे। उन्होंने सोचा इस अकाल में चलकर राजा भोज की ही _____ (2) लें, वह विद्वानों का _____ (3) करता है और धन भी देता है। कवि की स्त्री को यह बात _____ (4) आई और दोनों स्त्री-पुरुष राजा भोज के _____ (5) में जाने के लिए निकल पड़े।

SubQuestion No : 18

Q.1 गद्यांश में संकेतित रिक्त स्थान (4) के लिए उपयुक्त शब्द होगा-

- Ans
- 1. रोचक
 - 2. नापसंद
 - 3. अपसंद
 - 4. पसन्द

Question ID : 9895809944
Chosen Option : 2

Comprehension:

निम्नलिखित गद्यांश के रिक्त स्थानों की पूर्ति गद्यांश के नीचे दिए गए प्रश्नों के अनुसार कीजिए -

एक बार ऐसा हुआ कि गुजरात देश में बड़ा _____ (1) अकाल पड़ा। उन दिनों गुजरात में कवि भारवि रहते थे। उन्होंने सोचा इस अकाल में चलकर राजा भोज की ही _____ (2) लें, वह विद्वानों का _____ (3) करता है और धन भी देता है। कवि की स्त्री को यह बात _____ (4) आई और दोनों स्त्री-पुरुष राजा भोज के _____ (5) में जाने के लिए निकल पड़े।

SubQuestion No : 19

Q.1 गद्यांश में संकेतित रिक्त स्थान (5) के लिए उपयुक्त शब्द होगा-

- Ans
- 1. गांव
 - 2. दरबार
 - 3. घाट
 - 4. घरबार

Question ID : 9895809945
Chosen Option : 2

Q.2 'दूर की सोचने वाला' के लिए एक शब्द प्रयुक्त होता है-

- Ans
- 1. दूरदर्शी
 - 2. भविष्यवक्ता
 - 3. समदर्शी
 - 4. ज्योतिषी

Question ID : 9895809952
Chosen Option : 2

Q.2 'गंगा' का पर्यायवाची शब्द है-

- Ans
- 1. कालिन्दी
 - 2. सरिता
 - 3. नदी
 - 4. मंदाकिनी

Question ID : 9895809948
Chosen Option : 2

Q.2 'सखा' का पर्यायवाची शब्द है-

- Ans
- 1. हमसफर
 - 2. राहगीर
 - 3. अखंड
 - 4. मित्र

Question ID : 9895809949
Chosen Option : 4

Q.2 रिक्त स्थान को भरने के लिए उपयुक्त शब्द का चयन करें।

आचरण की सभ्यतामयी भाषा सदा _____ रहती है।

- Ans
- 1. प्रखर
 - 2. मौन

3. कटु

4. मुखर

Question ID : 9895809938

Chosen Option : 3

Q.2
4 रिक्त स्थान को भरने के लिए उपयुक्त शब्द का चयन करें।

जंगल में _____ अंधकार था।

Ans 1. विशाल

2. अधिक

3. महान

4. घना

Question ID : 9895809936

Chosen Option : 4

Q.2
5 दिए गए वाक्य का वह भाग ज्ञात करें जिसमें कोई त्रुटि है।

मानव जीवन की सार्थकता परहित के लिए बलिदान करने का भावना में निहित है।

Ans 1. मानव जीवन की सार्थकता

2. में निहित है।

3. बलिदान करने का भावना

4. परहित के लिए

Question ID : 9895809932

Chosen Option : 2

Constable (GD) in CAPFs, NIA, SSF and Rifleman (GD) in Assam Rifles Examination, 2018

Roll No. :	
Registration No.	
Name :	
Exam Venue :	
Exam Time :	9:00 AM - 10:30 AM
Exam Date :	11/03/2019

Section : General Section

Q.1 चार अक्षर समूह दिए गए हैं, जिनमें से तीन किसी तरह से समान हैं, जबकि एक अलग है। असंगत अक्षर समूह का चयन करें।

- Ans
- 1. GCE
 - 2. SJL
 - 3. PLN
 - 4. JFH

Question ID : 9895809324
Chosen Option : 2

Q.2 उस विकल्प का चयन करें जो तीसरे पद से उसी तरह संबंधित है जिस प्रकार दूसरा पद पहले पद से संबंधित है।

GHI : LKJ :: STU : _____

- Ans
- 1. XWV
 - 2. ZXY
 - 3. UTV
 - 4. WVX

Question ID : 9895809328
Chosen Option : 1

Q.3 उस विकल्प का चयन करें जो तीसरे पद से उसी तरह संबंधित है जिस प्रकार दूसरा पद पहले पद से संबंधित है।

कंगारू : कुदकना :: साँप : _____

- Ans
- 1. रेंगना
 - 2. काटना
 - 3. चलना
 - 4. कुंडलन

Question ID : 9895809326
Chosen Option : 1

Q.4

उस विकल्प का चयन करें जो तीसरे पद से उसी तरह संबंधित है जिस प्रकार दूसरा पद पहले पद से संबंधित है।

22 : 333 :: 4444 : _____

- Ans
- 1. 55555
 - 2. 55
 - 3. 555
 - 4. 5555

Question ID : 9895809338
Chosen Option : 1

Q.5 दिए गए विकल्पों में से संबंधित शब्द युग्म का चयन करें।

अपराध : आपराधिकी :: _____ : _____

- Ans
- 1. हृदय : रुधिर विज्ञान
 - 2. ब्रह्मांड : ब्रह्माण्ड विज्ञान
 - 3. मानव व्यवहार : मौसम विज्ञानी
 - 4. पुष्प : फूलों की खेती

Question ID : 9895809327
Chosen Option : 2

Q.6 चार विकल्प दिए गए हैं, जिनमें से तीन किसी तरह से समान हैं, जबकि एक अलग है। असंगत का चयन करें।

- Ans
- 1. 825
 - 2. 2321
 - 3. 968
 - 4. 1521

Question ID : 9895809339
Chosen Option : 3

Q.7 नीचे दिए गए कथनों के बाद दो निष्कर्ष I और II दिए गए हैं। यह मानते हुए कि कथनों में दी गई जानकारी सत्य है, भले ही वह सर्वज्ञात तथ्यों से भिन्न प्रतीत होती हो और यह निर्णय करें कि कौन सा / से निष्कर्ष तार्किक और निश्चित रूप से कथन में दी गई जानकारी का अनुसरण करता है / करते हैं।

कथन

1. सभी डिब्बे जार हैं।
2. कोई टिन डिब्बा नहीं है।

निष्कर्ष

- I. कुछ जार टिन हैं।
- II. सभी टिन जार हैं।

- Ans
- 1. केवल निष्कर्ष I अनुसरण करता है।
 - 2. केवल निष्कर्ष II अनुसरण करता है।
 - 3. न निष्कर्ष I न ही निष्कर्ष II अनुसरण करते हैं।

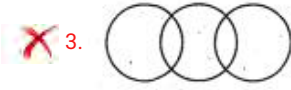
✗ 4. निष्कर्ष । और ॥ दोनों अनुसरण करते हैं।

Question ID : 9895809334
Chosen Option : 3

Q.8 वेन आरेख का चयन करें जो दिए गए तीन वर्गों के बीच के संबंध को सर्वोत्तम दर्शाता है।

अविवाहित, विवाहित, व्यक्ति

Ans



Question ID : 9895809347
Chosen Option : 4

Q.9 उस विकल्प का चयन करें जो सही रूप में रिक्त स्थान की पूर्ति करते हुए श्रृंखला को पूरा करें।

32, 144, ?, 2916, 13122, 59049

Ans

✗ 1. 864

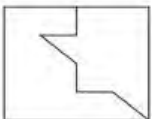
✗ 2. 846

✓ 3. 648

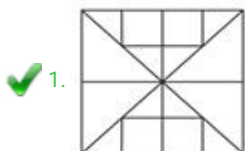
✗ 4. 684

Question ID : 9895809337
Chosen Option : 3

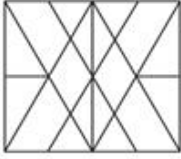
Q.10 उस विकल्प आकृति का चयन करें, जिसमें प्रश्न आकृति छिपी हुई/अंतर्निहित है।



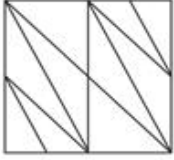
Ans



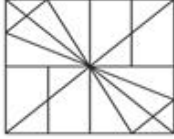
2.



3.



4.



Question ID : 9895809344
Chosen Option : 1

Q.1
1 सोनू, यतेन्द्र से लंबा है, अमित सोनू से लंबा है। सुभाष, अमित से लंबा है। सल्लू सबसे लंबा है। यदि वे अपनी लंबाई के अनुसार खड़े हैं तो ठीक मध्य में कौन होगा?

Ans

1. सोनू

2. यतेन्द्र

3. अमित

4. सुभाष

Question ID : 9895809333
Chosen Option : 3

Q.1
2 उस विकल्प का चयन करें जो सही रूप में रिक्त स्थान की पूर्ति करते हुए श्रृंखला को पूरा करें।

0.25, 1, ?, 4, 6.25, 9

Ans

1. 2.25

2. 2

3. 3

4. 2.75

Question ID : 9895809336
Chosen Option : 1

Q.1
3 '*' चिन्ह का स्थान लेने के लिये और समीकरण को संतुलित करने के लिये गणितीय चिन्हों के सही युग्म का चयन करें।

$44 * 6 * 12 * 3 * 20$

Ans

1. - + × =

2. ÷ × + =

3. - × ÷ =

4. $\times \div + =$

Question ID : 9895809341
Chosen Option : 3

Q.1 4 उस विकल्प का चयन करें जो सही रूप में रिक्त स्थान की पूर्ति करते हुए श्रृंखला को पूरा करें।

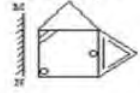
AA, BD, CI, DP, ?

- Ans
- 1. ER
 - 2. FY
 - 3. EY
 - 4. FR

Question ID : 9895809323
Chosen Option : 3

Q.1 5 जब दर्पण को MN रेखा पर रखा जाता है, तब कौन सी उत्तर आकृति दी गई आकृति की सही छवि है?

प्रश्न आकृति:



Ans

- 1.
- 2.
- 3.
- 4.

Question ID : 9895809345
Chosen Option : 4

Q.1 6 यदि GREAT को 62149 के रूप में और FINAL को 53047 के रूप में लिखते हैं, तो REGAL को कैसे लिखा जाएगा?

- Ans
- 1. 22674
 - 2. 21647
 - 3. 26147
 - 4. 22471

Question ID : 9895809330
Chosen Option : 2

Q.1 7 J, A, G, E, V और F केंद्र की ओर मुख करके एक गोल मेज के चारों ओर बैठे हैं। F, G के बाईं ओर है, जो A के विपरीत है, V, A और J के बीच में है। E के बाईं ओर कौन है?

- Ans 1. A
 2. G
 3. F
 4. V

Question ID : 9895809332
Chosen Option : 2

Q.1 नीचे दिए गए दो कथनों के बाद I, II और III तीन निष्कर्ष दिए गए हैं। यह मानते हुए कि कथनों में दी गई जानकारी सत्य है, भले ही वह सर्वज्ञात तथ्यों से भिन्न प्रतीत होती हो और यह निर्णय करें कि कौन सा / से निष्कर्ष तार्किक और निश्चित रूप से कथन में दी गई जानकारी का अनुसरण करता है / करते हैं।

कथन

- कुछ पहाड़ियाँ (हिल्स) टीले हैं।
- कोई टीला पहाड़ (माउंटेन) नहीं है।

निष्कर्ष

- कुछ टीले पहाड़ियाँ हैं।
- कुछ पहाड़ पहाड़ियाँ हैं।
- सभी पहाड़ियाँ पहाड़ हैं।

- Ans 1. केवल निष्कर्ष III अनुसरण करता है।
 2. तीनों निष्कर्ष I, II और III अनुसरण करते हैं।
 3. केवल निष्कर्ष I और III अनुसरण करते हैं।
 4. केवल निष्कर्ष I अनुसरण करता है।

Question ID : 9895809335
Chosen Option : 4

Q.1 G, H, I, J और K एक पंक्ति में बैठे हैं। J न तो H के बगल में है और न ही K के। J अंत में नहीं है। H, G के बाईं ओर है। K के बाईं ओर कौन है?

- Ans 1. H
 2. I
 3. G
 4. J

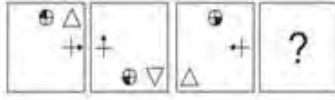
Question ID : 9895809331
Chosen Option : 2

Q.2 एक निश्चित कूट भाषा में, ADMIT को BFPMY के रूप में कूटबद्ध किया जाता है। उस कोड में CARD कैसे कूटबद्ध किया जाता है?

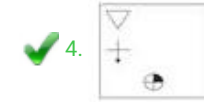
- Ans 1. UCDH
 2. DCHU
 3. DCUH
 4. DUCH

Question ID : 9895809329

Q.2
1 वह विकल्प चुनें जो दी गई आकृति श्रृंखला को पूरा करता है



Ans



Question ID : 9895809342

Chosen Option : 4

Q.2
2 चार शब्द दिए गए हैं, जिनमें से तीन किसी तरह से समान हैं, जबकि एक अलग है। असंगत शब्द का चयन करें।

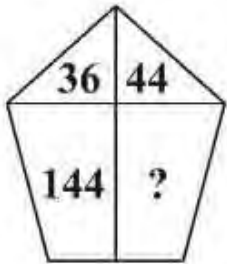
Ans

1. पंख
2. कपाल
3. ग्रासनली
4. नास्य हड्डी

Question ID : 9895809325

Chosen Option : 1

Q.2
3 दिए गए विकल्पों में से लुप्त संख्या ज्ञात करें।



Ans


1. 183
2. 154
3. 176
4. 179

Q.2 पारदर्शी शीट पर अंकित एक आकृति दी गई है और उसके बाद चार उत्तर आकृतियां दी गई हैं, इन चार विकल्पों में से एक उस आकृति से मिलती जुलती है, जो कि बिन्दुदार रेखा पर पारदर्शी शीट को मोड़कर प्राप्त होती है। उस विकल्प का चयन करें।

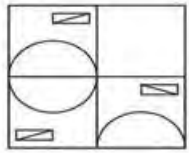
Question Figures:



Ans



Q.2 निम्नलिखित में से कौन सी उत्तर आकृति दी गई आकृति को पूरा करेगी?



Ans



Q.2 वाणिज्यिक मुकदमों के बारे में सरकार को निम्नलिखित में से कौन सा सुझाव भारत के 2017-18 के आर्थिक सर्वेक्षण के भीतर इंगित किया गया है?

Ans 1. मुकदमों की विचाराधीनता कम करनी चाहिए।

2. मुकदमों की संख्या में कोई परिवर्तन नहीं करना चाहिए।

3.

उनके द्वारा दायर किए गए मुकदमों की संख्या की जांच करने के लिए एक समिति नियुक्त करनी चाहिए।

4. मुकदमों की संख्या बढ़ानी चाहिए।

Question ID : 9895809509
Chosen Option : 3

Q.2
7 केन्द्र सरकार के बजट में वार्षिक वित्तीय विवरण दर्शाते हैं:

Ans 1. भारत सरकार द्वारा अर्जित अनुमानित धन

2.

विभिन्न राज्यों की अनुमानित प्राप्तियाँ और व्यय का ब्यौरा

3. भारत सरकार की अनुमानित प्राप्तियाँ और व्यय का ब्यौरा

4. जिला परिषद द्वारा खर्च किया गया अनुमानित धन

Question ID : 9895809510
Chosen Option : 3

Q.2
8 भारत में उपनिवेश-विरोधी आन्दोलन के बढ़ने का परिणाम था:

Ans 1. द्वंद्व

2. साम्प्रदायिकता

3. विभिन्नता

4. एकता

Question ID : 9895809521
Chosen Option : 2

Q.2
9 चौरा-चौरी काण्ड किस आधुनिक राज्य क्षेत्र में हुआ था?

Ans 1. दिल्ली

2. उत्तर प्रदेश

3. मध्य प्रदेश

4. केरल

Question ID : 9895809522
Chosen Option : 2

Q.3
0 2017 में मलयालम के लिए साहित्य अकादमी पुरस्कार से किसे सम्मानित किया गया?

Ans 1. के. पी. रामानुन्नी

- 2. ओमेन चांडी
- 3. के. आर. मीरा
- 4. प्रभा वर्मा

Question ID : 9895809503
Chosen Option : 1

Q.3
1 भारत में सभी औद्योगिक उत्पादों के लिए _____ गुणवत्ता का प्रतीक है।

- Ans
- 1. एफपीओ (FPO)
 - 2. एगमार्क (Agmark)
 - 3. इकोमार्क (Ecomark)
 - 4. आईएसआई (ISI)

Question ID : 9895809511
Chosen Option : 4

Q.3
2 किस भारतीय प्रधानमंत्री की मृत्यु भारत से बाहर हुई थी?

- Ans
- 1. जवाहरलाल नेहरू
 - 2. लाल बहादुर शास्त्री
 - 3. मोरारजी देसाई
 - 4. इंदिरा गांधी

Question ID : 9895809505
Chosen Option : 3

Q.3
3 किसी क्षेत्र की जैवविविधता के बेहतर मापक हैं:

- Ans
- 1. वहाँ पाए जाने वाले जानवरों की संख्या
 - 2. वहाँ पाई जाने वाली प्रजातियों की संख्या
 - 3. वहाँ पाए जाने वाले पेड़ों की संख्या
 - 4. वहाँ रहने वाले लोगों की संख्या

Question ID : 9895809519
Chosen Option : 2

Q.3
4 एक यंत्र जिसका उपयोग परिपथ में विद्युत् धारा को मापने के लिए किया जाता है _____ कहलाता है।

- Ans
- 1. जाइरोस्कोप
 - 2. ओममीटर

3. थर्मामीटर

4. एमीटर

Question ID : 9895809516
Chosen Option : 4

Q.3
5 भारतीय संविधान की आठवीं अनुसूची में _____ भाषाएँ शामिल हैं।

Ans 1. 2

2. 22

3. 25

4. 100

Question ID : 9895809508
Chosen Option : 2

Q.3
6 बहिर्वेधी चट्टानें एक प्रकार की _____ होती हैं।

Ans 1. जीवाश्म चट्टानें

2. अग्निमय चट्टानें

3. अवसादी चट्टानें

4. कायांतरित चट्टानें

Question ID : 9895809517
Chosen Option : 3

Q.3
7 स्वाद में खट्टे खाद्य पदार्थों की प्रकृति होती है:

Ans 1. क्षारकीय

2. क्षारीय

3. उदासीन

4. अम्लीय

Question ID : 9895809514
Chosen Option : 4

Q.3
8 कैटेनेशन का गुण किसमें सबसे अधिक आसानी से प्रबल होता है?

Ans 1. सिलिकॉन

2. गंधक

3. कार्बन

4. नाइट्रोजन

Question ID : 9895809513
Chosen Option : 4

Q.3 भारत के केंद्र शासित प्रदेशों का गठन इसलिए किया गया है क्योंकि वे _____ हैं।

- Ans
- 1. राज्य बनने के लिए उनका जनसंख्या घनत्व बहुताधिक
 - 2. राज्य बनने के लिए बहुत छोटे प्रांत
 - 3. राज्य बनने के लिए बहुत बड़े प्रांत
 - 4. बहुत बड़े प्रांत

Question ID : 9895809507
Chosen Option : 2

Q.4 पूर्व मुख्य आर्थिक सलाहकार, अरविंद सुब्रमण्यन के हालिया कार्यकाल की अवधि क्या थी?

- Ans
- 1. 2014-2016
 - 2. 2014-2018
 - 3. 2009-2014
 - 4. 2014-2017

Question ID : 9895809504
Chosen Option : 2

Q.4 ओडिसी नृत्य का पूर्ववर्ती रूप क्या है?

- Ans
- 1. भांगड़ा
 - 2. भरतनाट्यम
 - 3. गोतिपुआ
 - 4. कुचिपुड़ी

Question ID : 9895809498
Chosen Option : 3

Q.4 अजोध्या पहाड़ किस राज्य में स्थित है?

- Ans
- 1. केरल
 - 2. मध्य प्रदेश
 - 3. उत्तर प्रदेश
 - 4. पश्चिम बंगाल

Question ID : 9895809500
Chosen Option : 3

Q.4
3 यूएस ओपन टेनिस चैंपियनशिप फाइनल 2018 का खिताब महिला वर्ग में किसने जीता था?

- Ans
- 1. नाओमी ओसाका
 - 2. मार्टिना हिंगिस
 - 3. सेरेना विलियम्स
 - 4. वीनस विलियम्स

Question ID : 9895809502
Chosen Option : 1

Q.4
4 भारत में वित्त आयोग का गठन संविधान के अनुच्छेद 280 के तहत _____ द्वारा किया जाता है।

- Ans
- 1. राष्ट्रपति
 - 2. उच्चतम न्यायालय
 - 3. प्रधान मंत्री
 - 4. संसद

Question ID : 9895809506
Chosen Option : 4

Q.4
5 बंगाल में सरकार की दोहरी प्रणाली _____ के दिमाग की उपज थी।

- Ans
- 1. लॉर्ड हेस्टिंग्स
 - 2. लॉर्ड रिपन
 - 3. लॉर्ड क्लाइव
 - 4. लॉर्ड कार्नवालिस

Question ID : 9895809520
Chosen Option : 1

Q.4
6 मनुष्य में आम तौर पर गुणसूत्रों के जोड़े की संख्या _____ होती है।

- Ans
- 1. 20
 - 2. 22
 - 3. 10
 - 4. 21

Question ID : 9895809515
Chosen Option : 2

Q.4
7 'कुद' किस राज्य की नृत्य शैली है?

- Ans
- 1. केरल
 - 2. गुजरात

3. जम्मू एवं कश्मीर

4. पश्चिम बंगाल

Question ID : 9895809499
Chosen Option : 3

Q.4
8 पारिस्थितिकी के निर्माण में शामिल होते हैं:

Ans 1. केवल भौतिक कारक

2. केवल जीवित जीव

3. जीवित जीव एवं भौतिक कारक

4. केवल कीट पतंगे

Question ID : 9895809518
Chosen Option : 3

Q.4
9 2016 के ओलम्पिक खेलों में पुरुषों की 100 मीटर स्प्रिंट गोल्ड प्रतिस्पर्धा किसने जीती थी?

Ans 1. उसेन बोल्ट

2. विलियम ब्लेक

3. जेसी दे ग्रासे

4. जस्टिन गैटलिन

Question ID : 9895809501
Chosen Option : 1

Q.5
0 सभी सजीव जीवों को व्हिटेकर (1969) द्वारा प्रस्तावित प्रणाली के तहत समूहों _____ में वर्गीकृत किया जाता है।

Ans 1. तीन

2. सात

3. एक

4. पाँच

Question ID : 9895809512
Chosen Option : 1

Q.5
1 23, 45, 64, 81 और 77 का माध्य (mean) है:

Ans 1. 58

2. 56

3. 52

4. 54

Question ID : 9895809679
Chosen Option : 1

Q.5 A और C एक कार्य को 20 दिनों में पूरा कर सकते हैं, B और C उसी कार्य को 12 दिनों में कर सकते हैं। A, B और C मिलकर इसे 8 दिनों में पूरा कर सकते हैं। A और B मिलकर उसी कार्य को कितने दिनों में करेंगे?

- Ans
- 1. $\frac{60}{7}$ दिन
 - 2. $\frac{71}{3}$ दिन
 - 3. $\frac{65}{7}$ दिन
 - 4. $\frac{41}{3}$ दिन

Question ID : 9895809692
Chosen Option : 1

Q.5 किसी उत्पाद की अंकित मूल्य ₹ 500 है। 10% और 10% के बाद क्रमिक छूट के बाद विक्रय मूल्य क्या होगा?

- Ans
- 1. ₹ 400
 - 2. ₹ 405
 - 3. ₹ 425
 - 4. ₹ 450

Question ID : 9895809678
Chosen Option : 2

Q.5 दो संख्याओं का अनुपात 4 : 5 है और उनके घनों का योग 1512 है। उनके अंतर का वर्ग क्या है?

- Ans
- 1. 1
 - 2. 4
 - 3. 2.25
 - 4. 2

Question ID : 9895809684
Chosen Option : 2

Q.5 A और B एक कार्य को क्रमशः 8 और 16 दिनों में पूरा कर सकते हैं। यदि वे 3 दिनों तक इस कार्य को एक साथ करते हैं, तो कार्य का कितना भाग बचा है?

- Ans
- 1. $\frac{5}{16}$
 - 2. $\frac{11}{16}$
 - 3. $\frac{7}{16}$
 - 4. $\frac{9}{16}$

Question ID : 9895809691
Chosen Option : 3

6 क्रिकेट खेल के पहले 20 ओवरों में, औसत रन 5.50 था, 290 रन के लक्ष्य को प्राप्त करने के लिए शेष 30 ओवरों में आवश्यक औसत रन क्या होना चाहिए?

- Ans
- 1. 6.5
 - 2. 6.25
 - 3. 5.75
 - 4. 6

Question ID : 9895809673
Chosen Option : 4

Q.5
7 $4 \div 2 + 3 \times 6 - 7$ का मान है:

- Ans
- 1. 14
 - 2. 12
 - 3. 11
 - 4. 13

Question ID : 9895809675
Chosen Option : 4

Q.5
8 एक खोखले लोहे का पाइप 10 cm लंबा है और इसका बाहरी व्यास 18 cm है। यदि पाइप की मोटाई 2 cm है और लोहे का भार 8.5 g/cm^3 है, तो पाइप का भार निम्न में से किसके निकटतम है?

- Ans
- 1. 7.54 kg
 - 2. 9.54 kg
 - 3. 8.54 kg
 - 4. 5.54 kg

Question ID : 9895809688
Chosen Option : 3

Q.5
9 साधारण ब्याज पर कोई राशि 4 वर्षों में ₹ 400 और 5 वर्षों में ₹ 420 होती है। वह राशि क्या है?

- Ans
- 1. ₹ 220
 - 2. ₹ 340
 - 3. ₹ 200
 - 4. ₹ 320

Question ID : 9895809687
Chosen Option : 4

Q.6
0 एक बल्लेबाज ने 120 रन बनाए जिसमें 15 चौके और 2 छक्के शामिल थे। विकेटों के बीच दौड़कर उसने कितने प्रतिशत रन बनाये?

- Ans
- 1. 35%
 - 2. 37.50%
 - 3. 25%

✓ 4. 40%

Question ID : 9895809681
Chosen Option : 4

Q.6 दिया गया बार ग्राफ जनवरी से जून तक प्रत्येक महीने में एक वितरक द्वारा बेची गई कारों की संख्या को दर्शाता है।
1 दूसरी तिमाही में उसने पहली तिमाही की तुलना में कितनी कारें अधिक बेचीं?



- Ans ✓ 1. 30
✗ 2. 20
✗ 3. 25
✗ 4. 10

Question ID : 9895809696
Chosen Option : 1

Q.6 एक निश्चित राशि पर 2 वर्ष के लिए 6% प्रति वर्ष की दर से, साधारण और चक्रवृद्धि ब्याज में अंतर ₹ 36 है। वह
2 राशि क्या है?

- Ans ✗ 1. ₹ 1,250
✓ 2. ₹ 1,000
✗ 3. ₹ 750
✗ 4. ₹ 800

Question ID : 9895809677
Chosen Option : 2

Q.6 $8 \times 3 \div 6 + 7 - 4 \times 2 \div 4 + 8 - 10$ का मान क्या है?
3

- Ans ✓ 1. 7
✗ 2. 6
✗ 3. 4
✗ 4. 5

Question ID : 9895809676
Chosen Option : 1

Q.6 यदि $a : b = 2 : 3$, $b : c = 5 : 6$ और $c : d = 8 : 9$ है, तो $a : d$ का मान है?
4

- Ans ✗ 1. 37 : 81
✓ 2. 40 : 81
✗ 3. 44 : 81
✗ 4. 42 : 81

Q.6 एक समकोण त्रिभुज की जो भुजाएँ समकोण बनाती है वे 5 cm तथा 7 cm हैं। त्रिभुज को 5 cm भुजा के परित घुमाया जाता है। इस प्रकार बने शंकु का आयतन है:

- Ans
- 1. $71\frac{2}{3}\pi\text{ cm}^3$
 - 2. $51\frac{2}{3}\pi\text{ cm}^3$
 - 3. $61\frac{2}{3}\pi\text{ cm}^3$
 - 4. $81\frac{2}{3}\pi\text{ cm}^3$

Q.6 52 m लंबे और 47 m चौड़े पानी के टैंक में 220 वस्तुएँ डाली गईं। यदि एक वस्तु द्वारा विस्थापित पानी का औसत विस्थापन 4.5 m^3 है, तो टैंक के जल स्तर में लगभग वृद्धि कितनी होगी?

- Ans
- 1. 20.5 cm
 - 2. 30.5 cm
 - 3. 12.5 cm
 - 4. 40.5 cm

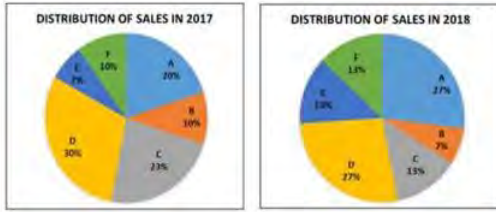
Q.6 ₹ 40,000 में x , एक स्कूटर खरीदता है और मरम्मत पर ₹ 5,000 खर्च करता है। वह इसे ₹ 54,000 में बेच देता है। उसका लाभ प्रतिशत क्या है?

- Ans
- 1. 12.50%
 - 2. 25%
 - 3. 15%
 - 4. 20%

Q.6 A और B के पास कुल राशि ₹ 1800 है। यदि A की राशि का $\frac{1}{3}$, B की राशि के $\frac{2}{3}$ के बराबर है, तो B के पास कितनी राशि है?

- Ans
- 1. ₹ 750
 - 2. ₹ 1200
 - 3. ₹ 600
 - 4. ₹ 900

9



उपरोक्त पाई चार्ट, बाजार में विभिन्न कंपनियों के वर्ष 2017 और 2018 की प्रतिशत हिस्सेदारी को दर्शाता है। बाजार की कुल बिक्री 2018 में 150 करोड़ से बढ़कर 225 करोड़ हो गयी है। कंपनी D की 2018 में हुई बिक्री से 2017 में हुई बिक्री का अनुपात क्या है?

- Ans
1. 16 : 21
2. 21 : 16
3. 20 : 27
4. 27 : 20

Question ID : 9895809697
Chosen Option : 4

Q.7 4 वर्ष पहले पति, पत्नी और उनके बच्चे की औसत आयु 26 वर्ष थी और 3 वर्ष पहले पत्नी और बच्चे की आयु 22 वर्ष थी। पति की वर्तमान आयु क्या है?

- Ans
1. 42 वर्ष
2. 46 वर्ष
3. 44 वर्ष
4. 40 वर्ष

Question ID : 9895809674
Chosen Option : 4

Q.7 दो स्टेशन P और Q के बीच की दूरी 570 km है। एक ट्रेन P से सुबह 5 बजे चलना प्रारंभ करती है और 90 km/hr की रफ्तार से Q की ओर जाती है। एक अन्य ट्रेन सुबह 6 बजे Q से चलना प्रारंभ करती है और 70 km/hr की रफ्तार से P की ओर जाती है। दोनों ट्रेन किस समय मिलेंगी?

- Ans
1. 11 a.m.
2. 1 p.m.
3. 9 a.m.
4. 3 p.m.

Question ID : 9895809694
Chosen Option : 3

Q.7 दो कारों की गति का अनुपात 6 : 5 है। यदि दूसरी कार 6 घंटे में 600 km चलती है, तो पहली कार की गति है:

- Ans
1. 100 km/hr
2. 110 km/hr
3. 120 km/hr
4. 90 km/hr

Question ID : 9895809693
Chosen Option : 3

Q.7 एक वस्तु को ₹ 400 में खरीदा गया और इसकी मरम्मत पर ₹ 50 का खर्चा किया गया। इसके अंकित मूल्य पर 10% की छुट देकर इसको 20% लाभ पर बेच दिया गया। वस्तु का अंकित मूल्य क्या है?

- Ans
- 1. ₹ 540
 - 2. ₹ 600
 - 3. ₹ 580
 - 4. ₹ 640

Question ID : 9895809683
Chosen Option : 2

Q.7 दिया गया लाइन ग्राफ, 6 मैचों में एक बल्लेबाज के स्कोर को दर्शाता है। कितने मैच ऐसे हैं जिसमें पिछले मैच की तुलना में उसका प्रदर्शन बेहतर था?



- Ans
- 1. 2
 - 2. 1
 - 3. 4
 - 4. 3

Question ID : 9895809695
Chosen Option : 4

Q.7 दो संख्याओं के महत्तम समापवर्तक (HCF) और लघुत्तम समापवर्त्य (LCM) क्रमशः 2 और 60 हैं। यदि एक संख्या दूसरी संख्या से 14 अधिक है, तो छोटी संख्या क्या है?

- Ans
- 1. 6
 - 2. 7
 - 3. 4
 - 4. 5

Question ID : 9895809680
Chosen Option : 1

Section : English Language

Q.1 Select the wrongly spelt word.

- Ans
- 1. Inevitable
 - 2. Incredible
 - 3. Intelligence
 - 4. Idiosyncrasy

Question ID : 9895809874

Chosen Option : --

Q.2 Select the meaning of the given idiom.

Man of straw

- Ans
- 1. Stubborn
 - 2. Useless
 - 3. Selfish
 - 4. Weak

Question ID : 9895809870
Chosen Option : --

Q.3 Select the most appropriate option to substitute the underlined segment in the given sentence. If there is no need to substitute it, select No substitution required.

The weather reports is prepared by the Meteorological Department of the Government.

- Ans
- 1. are prepared
 - 2. No substitution required
 - 3. is prepare
 - 4. prepared

Question ID : 9895809855
Chosen Option : --

Q.4 Identify the segment in the sentence which contains the grammatical error from the given options.

The Qutub Minar in Delhi, the world heritage site, is more than 1600 years old.

- Ans
- 1. The Qutub Minar
 - 2. 1600 years old
 - 3. the world heritage site
 - 4. is more than

Question ID : 9895809854
Chosen Option : --

Q.5 Select the word which means the same as the group of words given.

A person who is blamed for something that someone else has done.

- Ans
- 1. Culprit
 - 2. Volunteer
 - 3. Scapegoat
 - 4. Athlete

Question ID : 9895809872
Chosen Option : --

Q.6 Select the antonym of the given word.

DISTANT

- Ans
- 1. Remote
 - 2. Beyond
 - 3. Far
 - 4. Close

Question ID : 9895809868

Chosen Option : --

Q.7 Select the most appropriate word to fill in the blank.

Emperors need more resources _____ kings because empires are larger than kingdoms.

- Ans
- 1. than
 - 2. for
 - 3. of
 - 4. as

Question ID : 9895809859

Chosen Option : --

Q.8 Select the most appropriate word to fill in the blank.

These medicines are _____ for curing cold.

- Ans
- 1. effective
 - 2. proper
 - 3. natural
 - 4. powerful

Question ID : 9895809876

Chosen Option : --

Q.9 Identify the segment in the sentence which contains the grammatical error from the given options.

When food gets spoil, it produces a foul smell.

- Ans
- 1. When food
 - 2. it produces
 - 3. get spoil
 - 4. a foul smell

Question ID : 9895809852

Chosen Option : --

Q.1

0 Select the most appropriate option to substitute the underlined segment in the given sentence. If there is no need to substitute it, select No substitution required.

A well-known animal living in Antarctica are a penguins.

- Ans
- 1. is a penguin
 - 2. are penguin
 - 3. is the penguin
 - 4. No substitution required

Question ID : 9895809857
Chosen Option : --

Q.1
1 Select the wrongly spelt word.

- Ans
- 1. Inevitable
 - 2. Irresistible
 - 3. Incidentally
 - 4. Incredible

Question ID : 9895809875
Chosen Option : --

Q.1
2 Select the antonym of the given word.

FLOOD

- Ans
- 1. Abundance
 - 2. Overflow
 - 3. Drought
 - 4. Outpouring

Question ID : 9895809869
Chosen Option : --

Q.1
3 Select the most appropriate word to fill in the blank.

The blue whale has the largest tongue which can weigh _____ an elephant.

- Ans
- 1. many more as
 - 2. more as
 - 3. as much as
 - 4. much

Question ID : 9895809858
Chosen Option : --

Comprehension:

In the following passage some words have been deleted. Fill in the blanks with the help of the alternatives given. Select the most appropriate option for each number.

Orissa was hit by a cyclone with a wind speed of 200 km/h on 18 October 1999. The cyclone (1) _____ 45,000 houses making 7,00,000 people homeless. (2) _____ 29 October the same year, a second cyclone (3) _____ a wind speed of 260 km/h hit Orissa again. It was (4) _____ by water waves about 9 metre high. Thousands of people (5) _____ their lives. Property worth crores of rupees was destroyed.

SubQuestion No : 14

Q.1
4 Select the most appropriate option that will fill in the blank number 1.

- Ans
- 1. crashed
 - 2. exploded
 - 3. smashed
 - 4. burst

Question ID : 9895809861
Chosen Option : --

Comprehension:

In the following passage some words have been deleted. Fill in the blanks with the help of the alternatives given. Select the most appropriate option for each number.

Orissa was hit by a cyclone with a wind speed of 200 km/h on 18 October 1999. The cyclone (1) _____ 45,000 houses making 7,00,000 people homeless. (2) _____ 29 October the same year, a second cyclone (3) _____ a wind speed of 260 km/h hit Orissa again. It was (4) _____ by water waves about 9 metre high. Thousands of people (5) _____ their lives. Property worth crores of rupees was destroyed.

SubQuestion No : 15

Q.1
5 Select the most appropriate option that will fill in the blank number 2.

- Ans
- 1. From
 - 2. By
 - 3. In
 - 4. On

Question ID : 9895809862
Chosen Option : --

Comprehension:

In the following passage some words have been deleted. Fill in the blanks with the help of the alternatives given. Select the most appropriate option for each number.

Orissa was hit by a cyclone with a wind speed of 200 km/h on 18 October 1999. The cyclone (1) _____ 45,000 houses making 7,00,000 people homeless. (2) _____ 29 October the same year, a second cyclone (3) _____ a wind speed of 260 km/h hit Orissa again. It was (4) _____ by water waves about 9 metre high. Thousands of people (5) _____ their lives. Property worth crores of rupees was destroyed.

SubQuestion No : 16

Q.1
6 Select the most appropriate option that will fill in the blank number 3.

- Ans
- 1. with
 - 2. in
 - 3. from
 - 4. of

Question ID : 9895809863
Chosen Option : --

Comprehension:

In the following passage some words have been deleted. Fill in the blanks with the help of the alternatives given. Select the most appropriate option for each number.

Orissa was hit by a cyclone with a wind speed of 200 km/h on 18 October 1999. The cyclone (1) _____ 45,000 houses making 7,00,000 people homeless. (2) _____ 29 October the same year, a second cyclone (3) _____ a wind speed of 260 km/h hit Orissa again. It was (4) _____ by water waves about 9 metre high. Thousands of people (5) _____ their lives. Property worth crores of rupees was destroyed.

SubQuestion No : 17

Q.1
7 Select the most appropriate option that will fill in the blank number 4.

- Ans
- 1. accompanied
 - 2. furnished
 - 3. increased
 - 4. started

Question ID : 9895809864
Chosen Option : --

Comprehension:

In the following passage some words have been deleted. Fill in the blanks with the help of the alternatives given. Select the most appropriate option for each number.

Orissa was hit by a cyclone with a wind speed of 200 km/h on 18 October 1999. The cyclone (1) _____ 45,000 houses making 7,00,000 people homeless. (2) _____ 29 October the same year, a second cyclone (3) _____ a wind speed of 260 km/h hit Orissa again. It was (4) _____ by water waves about 9 metre high. Thousands of people (5) _____ their lives. Property worth crores of rupees was destroyed.

SubQuestion No : 18

Q.1
8 Select the most appropriate option that will fill in the blank number 5.

- Ans
- 1. finished
 - 2. gave
 - 3. left
 - 4. lost

Question ID : 9895809865
Chosen Option : --

Q.1
9 Identify the segment in the sentence which contains the grammatical error from the given options.
Ships are made of iron and a parts of them remains under water.

- Ans
- 1. Ships are
 - 2. under water
 - 3. made of iron
 - 4. a parts of

Question ID : 9895809853
Chosen Option : --

Q.2
0 Select the synonym of the given word.

STUBBORN

- Ans
- 1. Obstinate
 - 2. Adaptable
 - 3. Obedient
 - 4. Cooperative

Question ID : 9895809866
Chosen Option : --

Q.2

1 Select the most appropriate option to substitute the underlined segment in the given sentence. If there is no need to substitute it, select No substitution required.

Animals adapt themselves for survive in the conditions in which they live.

- Ans
- 1. No substitution required
 - 2. to survive in
 - 3. for survival on
 - 4. by surviving in

Question ID : 9895809856
Chosen Option : --

Q.2
2 Select the synonym of the given word.

RELISH

- Ans
- 1. Dislike
 - 2. Enjoy
 - 3. Detest
 - 4. Hate

Question ID : 9895809867
Chosen Option : --

Q.2
3 Select the meaning of the given idiom.

Hit a bad patch

- Ans
- 1. Went through many illnesses
 - 2. Had a bumpy car ride
 - 3. Experienced difficulty
 - 4. Came across stormy weather

Question ID : 9895809871
Chosen Option : --

Q.2
4 Select the word which means the same as the group of words given.

A person who knows and is able to use several languages.

- Ans
- 1. Polygamist
 - 2. Bilingual
 - 3. Polyglot
 - 4. Agnostic

Question ID : 9895809873
Chosen Option : --

Q.2
5 Select the most appropriate word to fill in the blank.

I will write a letter to you _____ the dates of the programme.

- Ans
- 1. urging
 - 2. indicating
 - 3. involving
 - 4. propagating

Question ID : 9895809877
Chosen Option : --

Section : Hindi Language

Q.1 दिए गए वाक्य में रेखांकित खंड को प्रतिस्थापित करने के लिए उपयुक्त विकल्प का चयन करें।

सुरेश और मोहन दोनों साथ-साथ पढ़ने वाले छात्र हैं।

- Ans
- 1. परोपकारी
 - 2. स्वावलंबी
 - 3. सहपाठी
 - 4. सहकर्मी

Question ID : 9895809985
Chosen Option : 3

Q.2 दिए गए वाक्य में रेखांकित खंड को प्रतिस्थापित करने के लिए उपयुक्त विकल्प का चयन करें।

आपके विद्वतापूर्ण व्याख्यान से मेरी शंका का निराकरण हो गया।

- Ans
- 1. विवेचन
 - 2. समाधान
 - 3. संहार
 - 4. स्पष्टीकरण

Question ID : 9895809986
Chosen Option : 2

Q.3 दिए गए वाक्य का वह भाग ज्ञात करें जिसमें कोई त्रुटि है।

बादशाह अकबर एक दिन शिकार खेलती हुई जंगल में भटक गए।

- Ans
- 1. एक दिन
 - 2. जंगल में भटक गए।
 - 3. शिकार खेलती हुई
 - 4. बादशाह अकबर

Question ID : 9895809982
Chosen Option : 3

Q.4 'इष्ट' शब्द का विलोम शब्द है-

- Ans
- 1. अवनति
 - 2. अनिष्ट
 - 3. बुरा
 - 4. पतन

Question ID : 9895809998
Chosen Option : 2

Q.5 'अन्धे के हाथ बटेर लगना' मुहावरे का सही अर्थ है -

- Ans
- 1. अन्धे को सोना मिल जाना
 - 2. हानि होना
 - 3. एकाएक लाभ होना
 - 4. भविष्य की बात को जान लेना

Question ID : 98958010002
Chosen Option : 3

Q.6 रिक्त स्थान को भरने के लिए उपयुक्त शब्द का चयन करें।

मेरा ध्यान _____ भाई की ओर था।

- Ans
- 1. तुम
 - 2. हमारे
 - 3. हमें
 - 4. अपने

Question ID : 9895809991
Chosen Option : 4

Q.7 'बहुत-सी भाषाओं को जानने वाला' के लिए एक शब्द है-

- Ans
- 1. अनुवादक
 - 2. बहुभाषाविद्
 - 3. द्विभाषी
 - 4. प्रशासक

Question ID : 98958010004

Q.8 'जो भेदा या तोड़ा न जा सके' के लिए एक शब्द है-

- Ans
- 1. अभेद्य
 - 2. अभेद
 - 3. पारदर्शी
 - 4. नश्वर

Question ID : 98958010005
Chosen Option : 1

Q.9 दिए गए वाक्य का वह भाग ज्ञात करें जिसमें कोई त्रुटि है।

वर्तमान युग कम्प्यूटर तथा सूचना प्रोद्योगिकी की युग है।

- Ans
- 1. सूचना प्रोद्योगिकी
 - 2. वर्तमान युग
 - 3. की युग है।
 - 4. कम्प्यूटर तथा

Question ID : 9895809984
Chosen Option : 3

Q.10 दिए गए वाक्य का वह भाग ज्ञात करें जिसमें कोई त्रुटि है।

हम में से अधिकतर व्यक्ति अनेक आदतों से बँधा हुए हैं।

- Ans
- 1. बँधा हुए हैं।
 - 2. हम में से
 - 3. अधिकतर व्यक्ति
 - 4. अनेक आदतों से

Question ID : 9895809983
Chosen Option : 3

Q.11 'पराधीन' शब्द का विलोम शब्द है-

- Ans
- 1. अधीन
 - 2. स्वाधीन
 - 3. प्राचीन
 - 4. अर्वाचीन

Question ID : 9895809999

Chosen Option : 2

Q.1
2 'सर्प' का पर्यावाची शब्द है-

- Ans
- 1. अहित
 - 2. व्याल
 - 3. पतंग
 - 4. शार्दूल

Question ID : 98958010000

Chosen Option : 4

Q.1
3 रिक्त स्थान को भरने के लिए उपयुक्त शब्द का चयन करें।

वह _____ समझदार है।

- Ans
- 1. तीव्र
 - 2. बहुत
 - 3. अधिक
 - 4. मंद

Question ID : 9895809988

Chosen Option : 2

Q.1
4 'चोली दामन का साथ' मुहावरे का सही अर्थ है -

- Ans
- 1. मेल न होना
 - 2. कटु शत्रुता
 - 3. दुश्मनी
 - 4. घनिष्ठ संबंध होना

Question ID : 98958010003

Chosen Option : 4

Q.1
5 सही वर्तनी वाले शब्द का चयन करें।

- Ans
- 1. प्ररिवार
 - 2. परीवार
 - 3. परिवार
 - 4. पर्रिवार

Question ID : 98958010006

Q.1
6 रिक्त स्थान को भरने के लिए उपयुक्त शब्द का चयन करें।

सामाजिक कुरीतियों का एकमात्र कारण _____ है।

- Ans
- 1. अनजान
 - 2. अहंकार
 - 3. अज्ञान
 - 4. अकड़

Question ID : 9895809990
Chosen Option : 3

Q.1
7 दिए गए वाक्य में रेखांकित खंड को प्रतिस्थापित करने के लिए उपयुक्त विकल्प का चयन करें।

अब 'क्षय' जैसी प्राणहन्तक बीमारी का इलाज भी सम्भव है।

- Ans
- 1. आधान
 - 2. समादान
 - 3. उपचार
 - 4. समाचार

Question ID : 9895809987
Chosen Option : 3

Q.1
8 रिक्त स्थान को भरने के लिए उपयुक्त शब्द का चयन करें।

हमारे समाज _____ अनेक कुरीतियाँ हैं।

- Ans
- 1. बीच
 - 2. अंदर
 - 3. भीतर
 - 4. में

Question ID : 9895809989
Chosen Option : 4

Q.1
9 सही वर्तनी वाले शब्द का चयन करें।

- Ans
- 1. सम्मुख
 - 2. सन्मुख
 - 3. सनमुख
 - 4. संमूख

Question ID : 98958010007

Comprehension:

निम्नलिखित गद्यांश के रिक्त स्थानों की पूर्ति गद्यांश के नीचे दिए गए प्रश्नों के अनुसार कीजिए-

विज्ञान के क्षेत्र में जाकर लोग धर्म की _____ (1) करने लगते हैं। धर्म पर _____ (2) का लांछन लगाकर वैज्ञानिक अपने सत्यान्वेषी होने का गुणगान करते हैं। सच्चाई यह है कि धर्म और विज्ञान अलग-अलग होकर भी अलग-अलग नहीं हैं। दोनों का उद्देश्य _____ (3) का हित है। धर्म का _____ (4) मनुष्य के भीतर परोपकार, त्याग-बलिदान, करुणा और प्रेम का _____ (5) करके उसे सुंदर सामाजिक जीवन जीने योग्य बनाना है।

SubQuestion No : 20

Q.2
0 गद्यांश में संकेतित रिक्त स्थान (1) के लिए उपयुक्त शब्द होगा।

- Ans
- 1. उलाहना
 - 2. उत्प्रेक्षा
 - 3. उपेक्षा
 - 4. अपेक्षा

Question ID : 9895809993
Chosen Option : 4

Comprehension:

निम्नलिखित गद्यांश के रिक्त स्थानों की पूर्ति गद्यांश के नीचे दिए गए प्रश्नों के अनुसार कीजिए-

विज्ञान के क्षेत्र में जाकर लोग धर्म की _____ (1) करने लगते हैं। धर्म पर _____ (2) का लांछन लगाकर वैज्ञानिक अपने सत्यान्वेषी होने का गुणगान करते हैं। सच्चाई यह है कि धर्म और विज्ञान अलग-अलग होकर भी अलग-अलग नहीं हैं। दोनों का उद्देश्य _____ (3) का हित है। धर्म का _____ (4) मनुष्य के भीतर परोपकार, त्याग-बलिदान, करुणा और प्रेम का _____ (5) करके उसे सुंदर सामाजिक जीवन जीने योग्य बनाना है।

SubQuestion No : 21

Q.2
1 गद्यांश में संकेतित रिक्त स्थान (2) के लिए उपयुक्त शब्द होगा।

- Ans
- 1. अंधविश्वास

- 2. कर्मठता
- 3. मर्यादा
- 4. विश्वास

Question ID : 9895809994
Chosen Option : 1

Comprehension:

निम्नलिखित गद्यांश के रिक्त स्थानों की पूर्ति गद्यांश के नीचे दिए गए प्रश्नों के अनुसार कीजिए-

विज्ञान के क्षेत्र में जाकर लोग धर्म की _____ (1) करने लगते हैं। धर्म पर _____ (2) का लांछन लगाकर वैज्ञानिक अपने सत्यान्वेषी होने का गुणगान करते हैं। सच्चाई यह है कि धर्म और विज्ञान अलग-अलग होकर भी अलग-अलग नहीं हैं। दोनों का उद्देश्य _____ (3) का हित है। धर्म का _____ (4) मनुष्य के भीतर परोपकार, त्याग-बलिदान, करुणा और प्रेम का _____ (5) करके उसे सुंदर सामाजिक जीवन जीने योग्य बनाना है।

SubQuestion No : 22

Q.2
2 गद्यांश में संकेतित रिक्त स्थान (3) के लिए उपयुक्त शब्द होगा।

- Ans
- 1. विज्ञान
 - 2. सामाजिक विज्ञान
 - 3. इतिहास
 - 4. मनुष्य

Question ID : 9895809995
Chosen Option : 4

Comprehension:

निम्नलिखित गद्यांश के रिक्त स्थानों की पूर्ति गद्यांश के नीचे दिए गए प्रश्नों के अनुसार कीजिए-

विज्ञान के क्षेत्र में जाकर लोग धर्म की _____ (1) करने लगते हैं। धर्म पर _____ (2) का लांछन लगाकर वैज्ञानिक अपने सत्यान्वेषी होने का गुणगान करते हैं। सच्चाई यह है कि धर्म और विज्ञान अलग-अलग होकर भी अलग-अलग नहीं हैं। दोनों का उद्देश्य _____ (3) का हित है। धर्म का _____ (4) मनुष्य के भीतर परोपकार, त्याग-बलिदान, करुणा और प्रेम का _____ (5) करके उसे सुंदर सामाजिक जीवन जीने योग्य बनाना है।

SubQuestion No : 23

Q.2
3 गद्यांश में संकेतित रिक्त स्थान (4) के लिए उपयुक्त शब्द होगा।

- Ans
- 1. साधन
 - 2. लक्ष्य
 - 3. लक्ष
 - 4. साक्ष्य

Question ID : 9895809996
Chosen Option : 2

Comprehension:

निम्नलिखित गद्यांश के रिक्त स्थानों की पूर्ति गद्यांश के नीचे दिए गए प्रश्नों के अनुसार कीजिए-

विज्ञान के क्षेत्र में जाकर लोग धर्म की _____ (1) करने लगते हैं। धर्म पर _____ (2) का लांछन लगाकर वैज्ञानिक अपने सत्यान्वेषी होने का गुणगान करते हैं। सच्चाई यह है कि धर्म और विज्ञान अलग-अलग होकर भी अलग-अलग नहीं हैं। दोनों का उद्देश्य _____ (3) का हित है। धर्म का _____ (4) मनुष्य के भीतर परोपकार, त्याग-बलिदान, करुणा और प्रेम का _____ (5) करके उसे सुंदर सामाजिक जीवन जीने योग्य बनाना है।

SubQuestion No : 24

Q.2
4 गद्यांश में संकेतित रिक्त स्थान (5) के लिए उपयुक्त शब्द होगा।

- Ans
- 1. प्रगति
 - 2. विनाश
 - 3. हास

✓ 4. विकास

Question ID : 9895809997
Chosen Option : 1

Q.2
5 'पत्थर' का पर्यावाची शब्द है-

- Ans
- ✗ 1. शैल
 - ✗ 2. अचल
 - ✗ 3. भूधर
 - ✓ 4. प्रस्तर

Question ID : 98958010001
Chosen Option : 1

KD Job Updates

Constable (GD) in CAPFs, NIA, SSF and Rifleman (GD) in Assam Rifles Examination, 2018

Roll No. :	
Registration No.	
Name :	
Exam Venue :	
Exam Time :	12:30 PM - 2:00 PM
Exam Date :	11/03/2019

Section : General Section

Q.1 एक निश्चित कूट भाषा में, EMTWX को XWTME के रूप में कूटबद्ध किया जाता है। उस कोड में PYSCI कैसे कूटबद्ध किया जाता है?

- Ans
- 1. CISPY
 - 2. CYSIP
 - 3. ICSYP
 - 4. CIPSY

Question ID : 9895809354
Chosen Option : 3

Q.2 उस विकल्प आकृति का चयन करें, जिसमें प्रश्न आकृति छिपी हुई/अंतर्निहित है।

प्रश्न आकृति:



- Ans
- 1.
 - 2.
 - 3.
 - 4.

Question ID : 9895809369
Chosen Option : 3

Q.3

नीचे दिए गए कथनों के बाद दो निष्कर्ष I और II दिए गए हैं। यह मानते हुए कि कथनों में दी गई जानकारी सत्य है, भले ही वह सर्वज्ञात तथ्यों से भिन्न प्रतीत होती हो और यह निर्णय करें कि कौन सा / से निष्कर्ष तार्किक और निश्चित रूप से कथन में दी गई जानकारी का अनुसरण करता है / करते हैं।

कथन:

सभी फूल फल हैं।
सभी फल पौधे हैं।

निष्कर्ष:

I. सभी पौधे फूल हैं।
II. कुछ फल फूल हैं।

Ans

- ✓ 1. केवल निष्कर्ष II अनुसरण करता है।
✗ 2. या तो निष्कर्ष I या II अनुसरण करता है।
✗ 3. केवल निष्कर्ष I अनुसरण करता है।
✗ 4. निष्कर्ष I और II दोनों अनुसरण करते हैं।

Question ID : 9895809360
Chosen Option : 1

Q.4 चार विकल्प दिए गए हैं, जिनमें से तीन किसी तरह से समान हैं, जबकि एक अलग है। असंगत का चयन करें।

- Ans ✗ 1. 72
✓ 2. 83
✗ 3. 54
✗ 4. 135

Question ID : 9895809364
Chosen Option : 2

Q.5 चार अक्षर समूह दिए गए हैं, जिनमें से तीन किसी तरह से समान हैं, जबकि एक अलग है। असंगत अक्षर समूह का चयन करें।

- Ans ✗ 1. GAT
✓ 2. DAT
✗ 3. EAV
✗ 4. WAD

Question ID : 9895809349
Chosen Option : 4

Q.6 चार शब्द दिए गए हैं, जिनमें से तीन किसी तरह से समान हैं, जबकि एक अलग है। असंगत शब्द का चयन करें।

- Ans ✗ 1. दिसपुर
✗ 2. मुंबई
✗ 3. चेन्नई
✓ 4. झारखंड

Question ID : 9895809350
Chosen Option : 1

Q.7 उस विकल्प का चयन करें जो तीसरे पद से उसी तरह संबंधित है जिस प्रकार दूसरा पद पहले पद से संबंधित है।

AE : IM :: HL : ?

Ans

1. DS
 2. PT
 3. TP
 4. FU

Question ID : 9895809353
 Chosen Option : 3

Q.8 दिए गए विकल्पों में से लुप्त संख्या ज्ञात करें।

12	16	18
24	32	?
36	48	54

- Ans 1. 64
 2. 28
 3. 48
 4. 36

Question ID : 9895809365
 Chosen Option : 4

Q.9 एक निश्चित कूट भाषा में, GYM को 2275 रूप में कूटबद्ध किया जाता है। उस कोड में KIT कैसे कूटबद्ध किया जाता है?

- Ans 1. 1970
 2. 1980
 3. 1950
 4. 1960

Question ID : 9895809355
 Chosen Option : 2

Q.10 उस विकल्प का चयन करें जो सही रूप में रिक्त स्थान की पूर्ति करते हुए श्रृंखला को पूरा करें।

AEI, EIO, IOU, _____

- Ans 1. IOA
 2. MIL
 3. OUA
 4. OAU

Question ID : 9895809348
 Chosen Option : 3

Q.11 लुप्त पद ज्ञात करें।

119, 109, 89, 59, _____

- Ans 1. 29
 2. 39
 3. 49

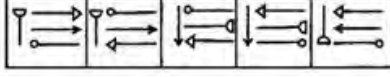
✓ 4. 19

Question ID : 9895809362

Chosen Option : 4

Q.1 2 उस विकल्प का चयन करें जो दी गई आकृति श्रृंखला को पूरा करता है।

प्रश्न आकृति



Ans

- ✗ 1.
- ✓ 2.
- ✗ 3.
- ✗ 4.

Question ID : 9895809367

Chosen Option : 1

Q.1 3 निम्नलिखित प्रश्न में पारदर्शी शीट पर अंकित एक आकृति दी गई है और उसके बाद चार उत्तर आकृतियां दी गई हैं, इन चार विकल्पों में से एक आकृति से मिलता जुलता है, जो कि बिन्दुदार रेखा के साथ पारदर्शी शीट को मोड़कर प्राप्त किया जाता है। उस विकल्प का चयन करें।

प्रश्न आकृति:



Ans

- ✗ 1.
- ✓ 2.
- ✗ 3.
- ✗ 4.

Question ID : 9895809371

Chosen Option : 2

Q.1 4 प्रीति ने राहुल से अधिक अंक प्राप्त किए। यमुना ने दिव्या के बराबर अंक प्राप्त किए। लोकिता ने मंजू से कम अंक प्राप्त किए। राहुल ने यमुना से अधिक अंक प्राप्त किए। मंजू ने दिव्या से कम अंक प्राप्त किए। सबसे कम अंक किसने प्राप्त किए?

Ans

- ✗ 1. राहुल
- ✓ 2. लोकिता
- ✗ 3. मंजू

4. यमुना

Question ID : 9895809358
Chosen Option : 2

Q.1
5 निम्नलिखित प्रश्न में दिए गए विकल्पों में से संबंधित संख्या का चयन करें।

47 : 15 :: ? : 19

- Ans
- 1. 57
 - 2. 40
 - 3. 36
 - 4. 59

Question ID : 9895809363
Chosen Option : 1

Q.1
6 उस विकल्प का चयन करें जो दर्पण के दायीं ओर रखे जाने पर दि गई आकृति की दर्पण छवि से सर्वाधिक मेल खाता है।

प्रश्न आकृति:

B

- Ans
- 1.
 - 2.
 - 3.
 - 4.

Question ID : 9895809370
Chosen Option : 1

Q.1
7 एक हॉल में सात बच्चे (लड़कियाँ और लड़के दोनों) P, Q, R, S, T, U और V हैं। वे तीन बेंच I, II और III पर इस प्रकार बैठे हैं कि प्रत्येक बेंच पर कम से कम दो बच्चे बैठे हैं और कम से कम एक लड़की बैठी है। R जो कि एक लड़की है, P, T और S के साथ नहीं बैठती। एक लड़का U केवल Q के साथ बैठता है। P, बेंच I पर अपने घनिष्ठ मित्रों के साथ बैठता है। V, बेंच III पर बैठा/बैठी है। T, R का भाई है।

R के साथ कौन बैठा है?

- Ans
- 1. V
 - 2. S
 - 3. Q
 - 4. U

Question ID : 9895809356
Chosen Option : 3

Q.1
8

उस विकल्प का चयन करें जो सही रूप में रिक्त स्थान की पूर्ति करते हुए श्रृंखला को पूरा करें।

43, 55, 79, 115, —

- Ans
1. 172
2. 139
3. 163
4. 127

Question ID : 9895809361

Chosen Option : 3

Q.1 छ: व्यक्ति A, B, C, D, E तथा F दो पंक्तियों में, प्रत्येक पंक्ति में तीन बैठे हैं।

E किसी भी पंक्ति के अंत में नहीं है।
D, F के बाईं ओर से दूसरे स्थान पर है।
C, E का पड़ोसी है तथा D से विकर्णतः बैठा है।
B, F का पड़ोसी है।

B के सामने कौन है?

- Ans
1. A
2. C
3. D
4. E

Question ID : 9895809357

Chosen Option : 3

Q.2 दिए गए विकल्पों में से संबंधित शब्द युग्म का चयन करें।

होली : रंग :: _____ : _____

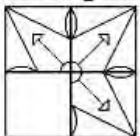
- Ans
1. मुहर्रम : मुसलमान
2. हेमिस : लोक
3. दीवाली : प्रकाश
4. लोधी : पंजाबी

Question ID : 9895809351

Chosen Option : 3

Q.2 निम्नलिखित में से कौन सी उत्तर आकृति दी गई आकृति को पूरा करेगी?

प्रश्न आकृति:

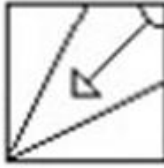


Ans

✓ 1.



✗ 2.



✗ 3.



✗ 4.



Question ID : 9895809368

Chosen Option : 1

Q.2 नीचे दिए गए कथनों के बाद दो निष्कर्ष I और II दिए गए हैं। यह मानते हुए कि कथनों में दी गई जानकारी सत्य है, भले ही वह सर्वज्ञात तथ्यों से भिन्न प्रतीत होती हो और यह निर्णय करें कि कौन सा / से निष्कर्ष तार्किक और निश्चित रूप से कथन में दी गई जानकारी का अनुसरण करता है / करते हैं।

कथन:

कुछ आलू टमाटर हैं।

सभी टमाटर प्याज हैं।

निष्कर्ष:

I. कुछ टमाटर आलू हैं।

II. सभी प्याज आलू हैं।

Ans

✓ 1. केवल निष्कर्ष I अनुसरण करता है।

✗ 2. केवल निष्कर्ष II अनुसरण करता है।

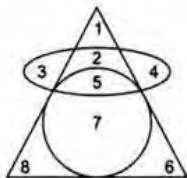
✗ 3. निष्कर्ष I और II दोनों अनुसरण करते हैं।

✗ 4. या तो निष्कर्ष I या II अनुसरण करता है।

Question ID : 9895809359

Chosen Option : 3

Q.2 नीचे दिए गए आरेख में कौन सी संख्या सभी ज्यामितीय आकृतियों में सामान्य है?



Ans

✗ 1. 7

2. 2 3. 4 4. 5Question ID : 9895809372
Chosen Option : 1Q.2
4 यदि '+' का अर्थ '-', '-' का अर्थ 'x', 'x' का अर्थ '+' और '+' का अर्थ '+', तो:

$$43 - 2 \times 2 + 8 = ?$$

Ans 1. 35 2. 42 3. 40 4. 25Question ID : 9895809366
Chosen Option : 1Q.2
5 दिए गए विकल्पों में से संबंधित शब्द युग्म का चयन करें।

आंध्र प्रदेश : तेलुगु :: _____ : _____

Ans 1. असम : मैथिली 2. केरल : मलयालम 3. गोवा : हिंदी 4. त्रिपुरा : तेलुगुQuestion ID : 9895809352
Chosen Option : 3Q.2
6 हम जिन वस्तुओं का उपयोग या उपभोग करते हैं, _____ को छोड़कर वे सभी पृथ्वी पर उपलब्ध संसाधनों से प्राप्त किए जाते हैं।Ans 1. घर्षण से प्राप्त ऊर्जा 2. जल से प्राप्त ऊर्जा 3. सूर्य से प्राप्त ऊर्जा 4. पवन से प्राप्त ऊर्जाQuestion ID : 9895809544
Chosen Option : 2Q.2
7 विद्युत् परिपथ में विभवान्तर मापने के लिए प्रयुक्त मापक _____ कहलाता है।Ans 1. जाइरोस्कोप 2. थर्मामीटर 3. ओममीटर 4. वोल्टमीटर

Question ID : 9895809541
Chosen Option : 3

Q.2
8 डुम्हाल किस राज्य की नृत्य शैली है?

- Ans
- 1. जम्मू एवं कश्मीर
 - 2. केरल
 - 3. गुजरात
 - 4. पश्चिम बंगाल

Question ID : 9895809524
Chosen Option : 4

Q.2
9 मुगल साम्राज्य के दौरान जजिया कर किस पर लगाया गया था?

- Ans
- 1. कुलीन नागरिकों पर
 - 2. गैर-मुस्लिम नागरिकों पर
 - 3. मुस्लिम नागरिकों पर
 - 4. सभी नागरिकों पर

Question ID : 9895809533
Chosen Option : 4

Q.3
0 हरे शैवालों के हरित होने का कारण है:

- Ans
- 1. फ्यकोबिलिन
 - 2. क्सान्थोप्ल्यायलुस
 - 3. क्लोरोफिल
 - 4. फ्यकोएरित्रीन

Question ID : 9895809537
Chosen Option : 3

Q.3
1 2016 के ओलम्पिक खेलों में, महिलाओं की 100 मीटर दौड़ (स्प्रिंट) में स्वर्ण पदक किसने जीता था?

- Ans
- 1. ऐलेन थॉम्पसन
 - 2. व्योमिया टायस
 - 3. शेलि-एन फ्रेजर-प्राइसे
 - 4. गेल डेवर्स

Question ID : 9895809526
Chosen Option : 2

Q.3
2 सिन्धु घाटी सभ्यता के दो प्राचीन नगर हड़प्पा और _____ खुदाई करने पर सामने आए।

- Ans
- 1. हस्तिनापुर

2. सूरत
3. मोहन-जोदड़ो
4. वाराणसी

Question ID : 9895809547
Chosen Option : 3

Q.3
3 गुजराती के लिए साहित्य अकादमी पुरस्कार 2017 के विजेता हैं:

- Ans 1. उर्मी देसाई
2. हिमांशु पटेल
3. डेविड शाह
4. रमेश मेघ

Question ID : 9895809528
Chosen Option : 2

Q.3
4 ऑस्ट्रेलियाई ओपन 2018 में, महिला एकल प्रतिस्पर्धा की विजेता कौन थीं?

- Ans 1. कैरोलिन वोज़नियेकी
2. सेरेना विलियम्स
3. मार्टिना हिंगिस
4. वीनस विलियम्स

Question ID : 9895809527
Chosen Option : 2

Q.3
5 यथा फरवरी 2019 को भारत में ग्रामीण विकास मंत्री निम्नलिखित में से कौन हैं?

- Ans 1. अनंत गीते
2. नरेंद्र सिंह तोमर
3. संतोष कुमार गंगवार
4. धर्मेंद्र प्रधान

Question ID : 9895809535
Chosen Option : 1

Q.3
6 मानव लिंग गुणसूत्र बच्चे का लिंग निर्धारण करते हैं, जहाँ XX का परिणाम है:

- Ans 1. लड़का
2. लड़की
3. ट्रांसजेंडर
4. लड़की या लड़का हो सकता है

Question ID : 9895809540
Chosen Option : 3

Q.3
7 निम्नलिखित में से कौन ओजोन को नष्ट करता है?

- Ans
- 1. कार्बन
 - 2. क्लोरीन
 - 3. गंधक
 - 4. सिलिकॉन

Question ID : 9895809538
Chosen Option : 4

Q.3
8 सुगम कर _____ से संबंधित है।

- Ans
- 1. वाणिज्यिक कर
 - 2. सीमा शुल्क
 - 3. आयकर
 - 4. उत्पाद शुल्क

Question ID : 9895809531
Chosen Option : 2

Q.3
9 _____ सरकार की प्रणाली विधायिका को दो अलग-अलग विधानसभाओं, मंडलों या सदनों में विभाजित करती है।

- Ans
- 1. चार सदनीय
 - 2. द्वासदनीय
 - 3. एक सदनीय
 - 4. त्रिसदनीय

Question ID : 9895809536
Chosen Option : 3

Q.4
0 जैवनिम्नीकरणीय मने जाने वाले पदार्थ:

- Ans
- 1. किसी भी प्रकार निम्नीकृत नहीं किए जा सकते।
 - 2. रासायनिक प्रक्रिया से निम्नीकृत किए जा सकते हैं।
 - 3. जैविक प्रक्रिया से निम्नीकृत किये जा सकते हैं।
 - 4. भौतिक प्रक्रिया से निम्नीकृत किए जा सकते हैं।

Question ID : 9895809543
Chosen Option : 1

Q.4
1 भारत का दक्षिणतम बंदरगाह किस राज्य में स्थित है?

- Ans
- 1. केरल
 - 2. तमिलनाडु
 - 3. आंध्र प्रदेश
 - 4. तेलंगाना

Question ID : 9895809542
Chosen Option : 3

Q.4
2 स्वाद में कड़वे खाद्य पदार्थों की प्रकृति _____ होती है।

- Ans
- 1. क्षारीय
 - 2. क्षारकीय
 - 3. अम्लीय
 - 4. उदासीन

Question ID : 9895809539
Chosen Option : 3

Q.4
3 स्वतंत्र भारत में सर्वप्रथम भारतरत्न पुरस्कार किसे दिया गया?

- Ans
- 1. सी.एन.आर.राव
 - 2. सरदार पटेल
 - 3. सी. वी. रमन
 - 4. जवाहरलाल नेहरू

Question ID : 9895809529
Chosen Option : 4

Q.4
4 भारत के पहले प्रधानमंत्री जिनकी हत्या की गई थी, हैं:

- Ans
- 1. लाल बहादुर शास्त्री
 - 2. इंदिरा गाँधी
 - 3. मोरारजी देसाई
 - 4. जवाहरलाल नेहरू

Question ID : 9895809530
Chosen Option : 3

Q.4
5 लोकतंत्र को तानाशाही से बेहतर माना जाता है क्योंकि यह:

- Ans
- 1. लोगों की गरिमा बढ़ाता है।
 - 2. लोगों के बीच संघर्ष को प्रोत्साहित करता है।
 - 3. गलतियों के लिए विशेष प्रावधान की अनुमति देता है।
 - 4. नागरिकों में समानता कम करता है।

Question ID : 9895809534
Chosen Option : 1

Q.4
6 अनुचित व्यापार प्रथाओं और शोषण के खिलाफ उपभोक्ताओं को _____ की चाहत करने का अधिकार है।

- Ans
- 1. निवारण
 - 2. दंड

3. चोट
4. सहानुभूति

Question ID : 9895809532
Chosen Option : 4

Q.4
7 'रणप्पा' नृत्य कला का संबंध किस राज्य से है?

- Ans 1. ओडिशा
2. पंजाब
3. केरल
4. तमिलनाडु

Question ID : 9895809523
Chosen Option : 4

Q.4
8 कोई सत्याग्रही अहिंसा द्वारा विजय प्राप्त कर सकता है:

- Ans 1. अत्याचारियों के सहयोगियों को प्रभावित करते हुए
2. अत्याचारियों की करुणा को प्रभावित करते हुए
3. अत्याचारियों की अन्तरात्मा को प्रभावित करते हुए
4. अत्याचारियों के नेतृत्व को प्रभावित करते हुए

Question ID : 9895809546
Chosen Option : 1

Q.4
9 प्रथम विश्वयुद्ध (1914-1918) के दौरान:

- Ans 1. कीमतें लगभग दोगुनी हो गई थीं।
2. कीमतें अपरिवर्तित रहीं।
3. कीमतें कम हुई थीं।
4. कीमतों में 10% से कम वृद्धि हुई थी।

Question ID : 9895809545
Chosen Option : 1

Q.5
0 कुलिक पक्षी अभ्यारण्य कहाँ स्थित है?

- Ans 1. पश्चिम बंगाल
2. केरल
3. मध्य प्रदेश
4. उत्तर प्रदेश

Question ID : 9895809525
Chosen Option : 1

Q.5
1 मान ज्ञात करें:

$$(7 \times 6 + 5 - 15) \div 4 + 6 \div 3 - 4 + 18 \div 3$$

- Ans
- 1. 16
 - 2. 12
 - 3. 18
 - 4. 14

Question ID : 9895809701
Chosen Option : 2

Q.5
2 एक आयत के परिमाण और चौड़ाई के बीच का अनुपात 3 : 1 है। यदि आयत का क्षेत्रफल 310 sq. cm है, तो आयत की लंबाई लगभग है:

- Ans
- 1. 10.45 cm
 - 2. 13.45 cm
 - 3. 11.45 cm
 - 4. 12.45 cm

Question ID : 9895809714
Chosen Option : 2

Q.5
3 दो संख्याएँ A तथा B तीसरी संख्या C से क्रमशः 80% और 50% अधिक हैं। A तथा B का अनुपात क्या है?

- Ans
- 1. 6 : 5
 - 2. 5 : 6
 - 3. 8 : 5
 - 4. 5 : 8

Question ID : 9895809710
Chosen Option : 3

Q.5
4 उस पुल की लंबाई, जिसे एक 400 मीटर लंबी ट्रेन, 60 km/hr की गति से चलकर 36 सेकंड में पार करती है निम्न है:

- Ans
- 1. 500 m
 - 2. 450 m
 - 3. 200 m
 - 4. 250 m

Question ID : 9895809719
Chosen Option : 4

Q.5
5 X, Y और Z एक काम क्रमशः 8, 20 और 25 दिनों में पूरा कर सकते हैं। एक साथ काम करके, वे उसी काम को कितने दिनों में पूरा करेंगे?

- Ans
- 1. $\frac{180}{43}$ दिन
 - 2. $\frac{162}{43}$ दिन
 - 3. $\frac{172}{43}$ दिन

✓ 4. $\frac{200}{43}$ दिन

Question ID : 9895809717
Chosen Option : 3

Q.5
6 मान ज्ञात करें:

$$(11 + 4) - 9 \times 1 \div 4 \text{ का } 3$$

- Ans
- ✗ 1. 3
 - ✗ 2. $\frac{75}{4}$
 - ✗ 3. 5
 - ✓ 4. $\frac{57}{4}$

Question ID : 9895809700
Chosen Option : 1

Q.5
7 ₹ 1,000, की एक राशि 2 वर्षों में चक्रवृद्धि ब्याज की दर से ₹ 1,144.90 हो जाती है, जबकि ब्याज वार्षिक संयोजित है। ब्याज दर है:

- Ans
- ✓ 1. 7%
 - ✗ 2. 5%
 - ✗ 3. 6%
 - ✗ 4. 8%

Question ID : 9895809702
Chosen Option : 2

Q.5
8 एक ट्रेन 42 सेकंड में एक प्लेटफॉर्म को पार करती है और प्लेटफॉर्म पर खड़े एक व्यक्ति को 25 सेकंड में पार करती है। यदि ट्रेन की गति 72 km/hr है, तो प्लेटफॉर्म की लंबाई क्या है?

- Ans
- ✓ 1. 340 m
 - ✗ 2. 370 m
 - ✗ 3. 300 m
 - ✗ 4. 270 m

Question ID : 9895809718
Chosen Option : 2

Q.5
9 4 cm त्रिज्या वाले एक ठोस धातु के गोले को पिघलाया जाता है और '4' बराबर घन में पुनर्गठित किया जाता है। घन की भुजा है:

- Ans
- ✗ 1. $7^3 \sqrt{\frac{\pi}{3}}$ cm
 - ✗ 2. $5^3 \sqrt{\frac{\pi}{3}}$ cm
 - ✗ 3. $6^3 \sqrt{\frac{\pi}{3}}$ cm
 - ✓ 4. $4^3 \sqrt{\frac{\pi}{3}}$ cm

Question ID : 9895809713
Chosen Option : 4

Q.6 0 ₹ 700 में एक कपड़े का टुकड़ा खरीदा गया था। ₹ 20 के एक टेलरिंग चार्ज के बाद 12.5% का लाभ प्राप्त करने के लिए इसे किस मूल्य पर बेचा जाना चाहिए?

- Ans
- 1. ₹ 840
 - 2. ₹ 810
 - 3. ₹ 760
 - 4. ₹ 785

Question ID : 9895809707
Chosen Option : 4

Q.6 1 लाइन ग्राफ लगातार 6 मैचों में एक बल्लेबाज के स्कोर को दर्शाता है। 6 मैचों में उनकी बैटिंग औसत क्या है?



- Ans
- 1. 38.17
 - 2. 39.17
 - 3. 38.33
 - 4. 37.19

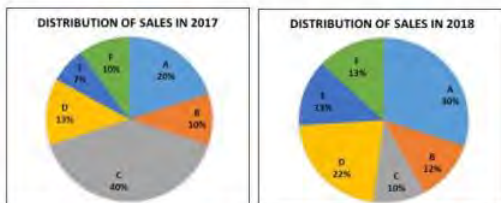
Question ID : 9895809720
Chosen Option : 1

Q.6 2 यदि a, c के 20% के बराबर है, और b, c के 40% के बराबर है, तो निम्नलिखित में से कौन सा b का 150% है?

- Ans
- 1. a का 250%
 - 2. c का 65%
 - 3. a का 300%
 - 4. c का 65%

Question ID : 9895809706
Chosen Option : 3

Q.6 3 पाई चार्ट 2017 और 2018 में डिजिटल बाजार में कंपनियों की बाजार हिस्सेदारी दिखाता है। बाजार की कुल कीमत ₹ 300 करोड़ से घटकर ₹ 200 करोड़ हो गई है। कंपनी F की बिक्री में कितनी कमी आई है?



Ans

1. $33\frac{1}{3}\%$
2. $14\frac{1}{3}\%$
3. $12\frac{1}{3}\%$
4. $13\frac{1}{3}\%$

Question ID : 9895809722
Chosen Option : 3

Q.6
4 4 : 5 : 8 का व्युत्क्रम अनुपात क्या है?

Ans

1. 8 : 5 : 4
2. 10 : 8 : 5
3. 3 : 4 : 5
4. 5 : 4 : 3

Question ID : 9895809711
Chosen Option : 1

Q.6 एक कार मालिक लगातार 3 वर्षों तक क्रमशः ₹ 40, ₹ 50 और ₹ 60 प्रति लीटर पर पेट्रोल खरीदता है। यदि वह
5 प्रत्येक वर्ष ₹ 30,000 खर्च करता है, तो पेट्रोल की प्रति लीटर की औसत लागत क्या है? (दशमलव के दो स्थानों तक सही)

Ans

1. ₹ 48.65
2. ₹ 50
3. ₹ 49.20
4. ₹ 51.20

Question ID : 9895809699
Chosen Option : 3

Q.6 एक ठोस गोले का आयतन 4851 m^3 है। गोले का पृष्ठीय क्षेत्रफल कितना है? ($\pi = \frac{22}{7}$ लीजिए)

Ans

1. 1260 m^2
2. 1386 m^2
3. 1408 m^2
4. 1364 m^2

Question ID : 9895809715
Chosen Option : 3

Q.6 एक वस्तु की सूची मूल्य ₹ 80 है। एक ग्राहक इसके लिए ₹ 30 का भुगतान करता है। उसे लगातार 2 छूट दी गईं,
7 जिसमें से एक 50% थी। अन्य छूट क्या थी?

Ans

1. 20%
2. 12.50%
3. 25%
4. 30%

Question ID : 9895809703
Chosen Option : 3

Q.6
8 4, 5 और 6 द्वारा विभाजित सबसे बड़ी 3-अंकीय संख्या क्या है?

- Ans
- 1. 930
 - 2. 960
 - 3. 900
 - 4. 990

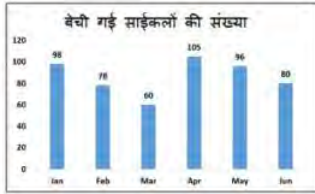
Question ID : 9895809705
Chosen Option : 1

Q.6
9 एक किराने की दुकान में लगातार 4 दिनों में ₹ 3,425, ₹ 3,810, ₹ 3,155 और ₹ 3,610 की बिक्री होती है। ₹ 3,500 की औसत बिक्री प्राप्त करने के लिए 5 वें दिन में उसकी कितनी बिक्री होनी चाहिए?

- Ans
- 1. ₹ 3,480
 - 2. ₹ 3,435
 - 3. ₹ 3,500
 - 4. ₹ 3,455

Question ID : 9895809698
Chosen Option : 2

Q.7
0 बार ग्राफ जनवरी से जून तक प्रत्येक महीने में एक वितरक द्वारा बेची गई साइकिल की संख्या को दर्शाता है। मार्च की तुलना में अप्रैल में बिकने वाले साइकिलों की संख्या में कितनी वृद्धि हुई है?



- Ans
- 1. 78%
 - 2. 70%
 - 3. 68%
 - 4. 75%

Question ID : 9895809721
Chosen Option : 3

Q.7
1 x का मान क्या है, यदि 21, 26, 49 और x का माध्य 32 है?

- Ans
- 1. 30
 - 2. 36
 - 3. 32
 - 4. 34

Question ID : 9895809704
Chosen Option : 2

Q.7
2 एक राशि पर 5 वर्षों में 9% प्रति वर्ष की दर से ₹ 1,350 कुल साधारण ब्याज प्राप्त हुआ। राशि क्या है?

- Ans
- 1. ₹ 3,000
 - 2. ₹ 2,500
 - 3. ₹ 3,300

4. ₹ 2,000

Question ID : 9895809712
Chosen Option : 1

Q.7 P, Q से दुगुनी तेजी से कार्य करता है। यदि Q, 36 दिनों में स्वतंत्र रूप से उसी कार्य को पूरा कर सकता है, तो P और Q मिलकर कितने दिनों में उसी कार्य को पूरा कर सकते हैं?

- Ans
1. 16 दिन
2. 12 दिन
3. 18 दिन
4. 9 दिन

Question ID : 9895809716
Chosen Option : 3

Q.7 यदि 15 सेब की कीमत 6 स्ट्रॉबेरी, 2 स्ट्रॉबेरी की कीमत 16 केले, 6 केले की कीमत 15 आलू जितनी है, तो एक सेब की लागत ₹ 20 होने पर 1 आलू की कीमत क्या है?

- Ans
1. ₹ 2.25
2. ₹ 2.50
3. ₹ 25
4. ₹ 22.50

Question ID : 9895809709
Chosen Option : 2

Q.7 यदि विक्रय मूल्य तीन गुना हो जाता है, तो लाभ 5 गुना हो जाता है। लाभ प्रतिशत क्या है?

- Ans
1. 100%
2. 200%
3. 150%
4. 50%

Question ID : 9895809708
Chosen Option : 2

Section : English Language

Q.1 Select the most appropriate option to substitute the underlined segment in the given sentence. If there is no need to substitute it, select No substitution required.

In vigorous exercise, the demand for bodily energy is very high.

- Ans
1. In vigorously exercise
2. While vigorous exercise
3. No substitution required
4. During vigorous exercise

Question ID : 9895809883
Chosen Option : --

Q.2

Select the synonym of the given word.

COMPASSION

- Ans
- 1. Cruelty
 - 2. Indifference
 - 3. Heartlessness
 - 4. Pity

Question ID : 9895809893
Chosen Option : --

Q.3 Select the most appropriate word to fill in the blank.

The authorities have _____ into this incident.

- Ans
- 1. probed
 - 2. evaluated
 - 3. tested
 - 4. examined

Question ID : 9895809902
Chosen Option : --

Q.4 Select the most appropriate option to substitute the underlined segment in the given sentence. If there is no need to substitute it, select No substitution required.

The food is broke down into useful substances that can be absorbed by the body.

- Ans
- 1. No substitution required
 - 2. break down
 - 3. is broken down
 - 4. is breaking down

Question ID : 9895809882
Chosen Option : --

Comprehension:

In the following passage some words have been deleted. Fill in the blanks with the help of the alternatives given. Select the most appropriate option for each number.

Settlements are (1) _____ where people build their homes. (2) _____ human beings lived on trees and (3) _____ caves. When they started (4) _____ crops it became (5) _____ to have a permanent home.

SubQuestion No : 5

Q.5 Select the most appropriate option that will fill in the blank number 1

- Ans
- 1. passages
 - 2. sections
 - 3. quarters
 - 4. places

Question ID : 9895809887
Chosen Option : --

Comprehension:

In the following passage some words have been deleted. Fill in the blanks with the help of the alternatives given. Select the most appropriate option for each number.

Settlements are (1) _____ where people build their homes. (2) _____ human beings lived on trees and (3) _____ caves. When they started (4) _____ crops it became (5) _____ to have a permanent home.

SubQuestion No : 6

Q.6 Select the most appropriate option that will fill in the blank number 2

- Ans
- 1. Initial
 - 2. Previous
 - 3. Prior
 - 4. Early

Question ID : 9895809888
Chosen Option : --

Comprehension:

In the following passage some words have been deleted. Fill in the blanks with the help of the alternatives given. Select the most appropriate option for each number.

Settlements are (1) _____ where people build their homes. (2) _____ human beings lived on trees and (3) _____ caves. When they started (4) _____ crops it became (5) _____ to have a permanent home.

SubQuestion No : 7

Q.7 Select the most appropriate option that will fill in the blank number 3

- Ans
- 1. on
 - 2. in
 - 3. at
 - 4. around

Question ID : 9895809889
Chosen Option : --

Comprehension:

In the following passage some words have been deleted. Fill in the blanks with the help of the alternatives given. Select the most appropriate option for each number.

Settlements are (1) _____ where people build their homes. (2) _____ human beings lived on trees and (3) _____ caves. When they started (4) _____ crops it became (5) _____ to have a permanent home.

SubQuestion No : 8

Q.8 Select the most appropriate option that will fill in the blank number 4

- Ans
- 1. grown
 - 2. growing
 - 3. grow

4. grows

Question ID : 9895809890
Chosen Option : --

Comprehension:

In the following passage some words have been deleted. Fill in the blanks with the help of the alternatives given. Select the most appropriate option for each number.

Settlements are (1) _____ where people build their homes. (2) _____ human beings lived on trees and (3) _____ caves. When they started (4) _____ crops it became (5) _____ to have a permanent home.

SubQuestion No : 9

Q.9 Select the most appropriate option that will fill in the blank number 5

- Ans 1. needed
 2. necessary
 3. required
 4. requirement

Question ID : 9895809891
Chosen Option : --

Q.1 Identify the segment in the sentence which contains the grammatical error from the given options.
0 Continuous heavy rainfall may farther worsen the flood situation.

- Ans 1. Continuous
 2. rainfall may
 3. farther
 4. flood situation

Question ID : 9895809879
Chosen Option : --

Q.1 Select the wrongly spelt word.
1

- Ans 1. Irresistable
 2. Apparent
 3. Believe
 4. Conscience

Question ID : 9895809901
Chosen Option : --

Q.1 Identify the segment in the sentence which contains the grammatical error from the given options.
2 Thunderstorms develop in hot, humid tropical areas like India much to frequently.

- Ans 1. frequently
 2. Thunderstorms develop
 3. much to

4. tropical areas

Question ID : 9895809878

Chosen Option : --

Q.1
3 Select the antonym of the given word.

AGREEMENT

- Ans 1. Harmony
 2. Discord
 3. Consensus
 4. Accord

Question ID : 9895809895

Chosen Option : --

Q.1
4 Select the most appropriate word to fill in the blank.

India gets a large number of medical tourists and visitors _____ many countries.

- Ans 1. through
 2. from
 3. across
 4. by

Question ID : 9895809885

Chosen Option : --

Q.1
5 Select the most appropriate word to fill in the blank.

Unlike the calm waters of lakes, ocean water keeps moving _____.

- Ans 1. continuing
 2. continuously
 3. continuous
 4. continue

Question ID : 9895809884

Chosen Option : --

Q.1
6 Select the meaning of the given idiom.

Under the gun

- Ans 1. To be cruel
 2. To be under pressure
 3. To be killed
 4. To be brave

Question ID : 9895809897

Chosen Option : --

Q.1

7 Select the synonym of the given word.

GRATIFICATION

- Ans 1. Satisfaction
 2. Complaint
 3. Annoyance
 4. Dissatisfaction

Question ID : 9895809892
Chosen Option : --

Q.1
8 Select the meaning of the given idiom.

Bite off more than one can chew

- Ans 1. To attack fiercely
 2. To take more than one can deal with
 3. To be always hungry
 4. To have an upset stomach

Question ID : 9895809896
Chosen Option : --

Q.1
9 Select the word which means the same as the group of words given.

A person employed to drive a private or hired car

- Ans 1. Pilot
 2. Chauffeur
 3. Astronaut
 4. Sailor

Question ID : 9895809899
Chosen Option : --

Q.2
0 Select the most appropriate option to substitute the underlined segment in the given sentence. If there is no need to substitute it, select No substitution required.

Yesterday, Maria was eagerly waited to meet her grandparents.

- Ans 1. was eagerly waiting
 2. No substitution required
 3. eagerly wait
 4. was eagerly waited

Question ID : 9895809881
Chosen Option : --

Q.2
1 Select the word which means the same as the group of words given.

Intentionally starting a fire to damage something

- Ans 1. Crime
 2. Loot
 3. Arson

4. Extinguish

Question ID : 9895809898

Chosen Option : --

Q.2
2 Select the most appropriate word to fill in the blank.

After reaching New York, Prakash will have to _____ himself to the new surroundings.

- Ans
- 1. develop
 - 2. submit
 - 3. adapt
 - 4. mix

Question ID : 9895809903

Chosen Option : --

Q.2
3 Select the antonym of the given word.

AGONY

- Ans
- 1. Pleasure
 - 2. Suffering
 - 3. Affliction
 - 4. Pain

Question ID : 9895809894

Chosen Option : --

Q.2
4 Select the wrongly spelt word.

- Ans
- 1. leisure
 - 2. Independant
 - 3. license
 - 4. Judgment

Question ID : 9895809900

Chosen Option : --

Q.2
5 Identify the segment in the sentence which contains the grammatical error from the given options.

The earthy fragrance of soil after a first rain is always refreshing.

- Ans
- 1. fragrance of
 - 2. The earthy
 - 3. a first rain
 - 4. always refreshing

Question ID : 9895809880

Chosen Option : --

Section : Hindi Language

Q.1

दिए गए वाक्य का वह भाग ज्ञात करें जिसमें कोई त्रुटि है।

सुदर्शन को ज्यामिति का विषय में अनुत्तीर्ण घोषित किया गया।

Ans

- 1. घोषित किया गया।
- 2. ज्यामिति का विषय में
- 3. अनुत्तीर्ण
- 4. सुदर्शन को

Question ID : 98958010010
Chosen Option : 1

Q.2 'प्रत्यक्ष' का विलोम शब्द है -

Ans

- 1. परोक्ष
- 2. निहित
- 3. अभाव
- 4. विहित

Question ID : 98958010025
Chosen Option : 2

Q.3 'जो अभी तक न आया हो' के लिए एक शब्द प्रयुक्त होता है-

Ans

- 1. अनुजा
- 2. अजन्मा
- 3. अनागत
- 4. अकिंचन

Question ID : 98958010031
Chosen Option : 3

Q.4 रिक्त स्थान को भरने के लिए उपयुक्त शब्द का चयन करें।

न मैं किसी की उपेक्षा करता हूँ, न किसी प्रकार की _____।

Ans

- 1. लालसा
- 2. अपेक्षा
- 3. इच्छा
- 4. आशंका

Question ID : 98958010016
Chosen Option : 1

Q.5 'टका सा जवाब देना' मुहावरे का सही अर्थ है -

Ans

- 1. साफ इनकार करना
- 2. संकट में पड़ना

3. बुरा भला कहना

4. अति क्रुद्ध होना

Question ID : 98958010029
Chosen Option : 1

Q.6 रिक्त स्थान को भरने के लिए उपयुक्त शब्द का चयन करें।

युवकों को _____ बनाना शिक्षा का मुख्य उद्देश्य है।

Ans 1. परावलम्बी

2. स्वावलम्बी

3. मतावलम्बी

4. भांत

Question ID : 98958010017
Chosen Option : 1

Q.7 'अनुचित बात के लिए आग्रह' के लिए एक शब्द है-

Ans 1. कठोर

2. दुर्जन

3. दुराग्रह

4. आग्रह

Question ID : 98958010030
Chosen Option : 1

Q.8 दिए गए वाक्य में रेखांकित खंड को प्रतिस्थापित करने के लिए उपयुक्त विकल्प का चयन करें।

कुछ लोग मुहूर्त देख कर घर में प्रवेश करते हैं ।

Ans 1. गृहप्रवेश

2. गृहागत

3. गृहपति

4. गृहयज्ञ

Question ID : 98958010013
Chosen Option : 1

Comprehension:

निम्नलिखित गद्यांश के रिक्त स्थानों की पूर्ति गद्यांश के नीचे दिए गए प्रश्नों के अनुसार कीजिए-

आप लोगों ने कभी शुद्ध हृदय से इस पर विचार किया है कि माता, मातृभूमि और _____ (1) का आप पर कुछ ऋण भी है या नहीं? एक जननी आपको जन्म देती है, एक की गोद में खेल-कूदकर और खा-पीकर आप पुष्ट होते हैं और एक आपको अपने भावों को प्रकट करने की _____ (2) दे, आपके सांसारिक जीवन को सुखमय बनाती है। जिसका आप पर इतना उपकार है, उसके लिए कुछ करना क्या आपका परम कर्तव्य नहीं है? प्यारे भाइयो! उठो आलस्य छोड़ो, कमर कसो और अपनी मातृभाषा की सेवा में तत्पर हो जाओ, अपने को _____ (3) से मुक्त करो। संसार में _____ (4) कहलाओ और मातृसेवकों में अपनी कीर्ति छोड़ जाओ। परंतु ध्यान रहे, यह व्रत साधारण नहीं है। इस व्रत का पालन करना _____ (5) की धार पर चलने के समान है।

SubQuestion No : 9

Q.9 गद्यांश में संकेतित रिक्त स्थान (1) के लिए उपयुक्त शब्द होगा।

- Ans
- 1. मातृभाषा
 - 2. संचार भाषा
 - 3. राष्ट्रभाषा
 - 4. राजभाषा

Question ID : 98958010019
Chosen Option : 1

Comprehension:

निम्नलिखित गद्यांश के रिक्त स्थानों की पूर्ति गद्यांश के नीचे दिए गए प्रश्नों के अनुसार कीजिए-

आप लोगों ने कभी शुद्ध हृदय से इस पर विचार किया है कि माता, मातृभूमि और _____ (1) का आप पर कुछ ऋण भी है या नहीं? एक जननी आपको जन्म देती है, एक की गोद में खेल-कूदकर और खा-पीकर आप पुष्ट होते हैं और एक आपको अपने भावों को प्रकट करने की _____ (2) दे, आपके सांसारिक जीवन को सुखमय बनाती है। जिसका आप पर इतना उपकार है, उसके लिए कुछ करना क्या आपका परम कर्तव्य नहीं है? प्यारे भाइयो! उठो आलस्य छोड़ो, कमर कसो और अपनी मातृभाषा की सेवा में तत्पर हो जाओ, अपने को _____ (3) से मुक्त करो। संसार में _____ (4) कहलाओ और मातृसेवकों में अपनी कीर्ति छोड़ जाओ। परंतु ध्यान रहे, यह व्रत साधारण नहीं है। इस व्रत का पालन करना _____ (5) की धार पर चलने के समान है।

SubQuestion No : 10

Q.1
0 गद्यांश में संकेतित रिक्त स्थान (2) के लिए उपयुक्त शब्द होगा।

- Ans
- 1. मुक्ति
 - 2. रोक के
 - 3. भक्ति
 - 4. शक्ति

Question ID : 98958010020
Chosen Option : 4

Comprehension:

निम्नलिखित गद्यांश के रिक्त स्थानों की पूर्ति गद्यांश के नीचे दिए गए प्रश्नों के अनुसार कीजिए-

आप लोगों ने कभी शुद्ध हृदय से इस पर विचार किया है कि माता, मातृभूमि और _____ (1) का आप पर कुछ ऋण भी है या नहीं? एक जननी आपको जन्म देती है, एक की गोद में खेल-कूदकर और खा-पीकर आप पुष्ट होते हैं और एक आपको अपने भावों का प्रकट करने की _____ (2) दे, आपके सांसारिक जीवन को सुखमय बनाती है। जिसका आप पर इतना उपकार है, उसके लिए कुछ करना क्या आपका परम कर्तव्य नहीं है? प्यारे भाइयो! उठो आलस्य छोड़ो, कमर कसो और अपनी मातृभाषा की सेवा में तत्पर हो जाओ, अपने को _____ (3) से मुक्त करो। संसार में _____ (4) कहलाओ और मातृसेवकों में अपनी कीर्ति छोड़ जाओ। परंतु ध्यान रहे, यह व्रत साधारण नहीं है। इस व्रत का पालन करना _____ (5) की धार पर चलने के समान है।

SubQuestion No : 11

Q.1
1 गद्यांश में संकेतित रिक्त स्थान (3) के लिए उपयुक्त शब्द होगा।

- Ans
- 1. मातृऋण
 - 2. गुरुऋण
 - 3. ईश्वरऋण
 - 4. पितृऋण

Question ID : 98958010021
Chosen Option : 4

Comprehension:

निम्नलिखित गद्यांश के रिक्त स्थानों की पूर्ति गद्यांश के नीचे दिए गए प्रश्नों के अनुसार कीजिए-

आप लोगों ने कभी शुद्ध हृदय से इस पर विचार किया है कि माता, मातृभूमि और _____ (1) का आप पर कुछ ऋण भी है या नहीं? एक जननी आपको जन्म देती है, एक की गोद में खेल-कूदकर और खा-पीकर आप पुष्ट होते हैं और एक आपको अपने भावों को प्रकट करने की _____ (2) दे, आपके सांसारिक जीवन को सुखमय बनाती है। जिसका आप पर इतना उपकार है, उसके लिए कुछ करना क्या आपका परम कर्तव्य नहीं है? प्यारे भाइयो! उठो आलस्य छोड़ो, कमर कसो और अपनी मातृभाषा की सेवा में तत्पर हो जाओ, अपने को _____ (3) से मुक्त करो। संसार में _____ (4) कहलाओ और मातृसेवकों में अपनी कीर्ति छोड़ जाओ। परंतु ध्यान रहे, यह व्रत साधारण नहीं है। इस व्रत का पालन करना _____ (5) की धार पर चलने के समान है।

SubQuestion No : 12

Q.1
2 गद्यांश में संकेतित रिक्त स्थान (4) के लिए उपयुक्त शब्द होगा।

- Ans
- 1. सपूत
 - 2. कपूत
 - 3. शूरवीर
 - 4. कपूर

Question ID : 98958010022
Chosen Option : 3

Comprehension:

निम्नलिखित गद्यांश के रिक्त स्थानों की पूर्ति गद्यांश के नीचे दिए गए प्रश्नों के अनुसार कीजिए-

आप लोगों ने कभी शुद्ध हृदय से इस पर विचार किया है कि माता, मातृभूमि और _____ (1) का आप पर कुछ ऋण भी है या नहीं? एक जननी आपको जन्म देती है, एक की गोद में खेल-कूदकर और खा-पीकर आप पुष्ट होते हैं और एक आपको अपने भावों को प्रकट करने की _____ (2) दे, आपके सांसारिक जीवन को सुखमय बनाती है। जिसका आप पर इतना उपकार है, उसके लिए कुछ करना क्या आपका परम कर्तव्य नहीं है? प्यारे भाइयो! उठो आलस्य छोड़ो, कमर कसो और अपनी मातृभाषा की सेवा में तत्पर हो जाओ, अपने को _____ (3) से मुक्त करो। संसार में _____ (4) कहलाओ और मातृसेवकों में अपनी कीर्ति छोड़ जाओ। परंतु ध्यान रहे, यह व्रत साधारण नहीं है। इस व्रत का पालन करना _____ (5) की धार पर चलने के समान है।

SubQuestion No : 13

Q.1
3 गद्यांश में संकेतित रिक्त स्थान (5) के लिए उपयुक्त शब्द होगा।

- Ans
- 1. हसियाँ
 - 2. तलवार
 - 3. पानी
 - 4. चाकू

Question ID : 98958010023
Chosen Option : 2

Q.1
4 रिक्त स्थान को भरने के लिए उपयुक्त शब्द का चयन करें।

तुम मेरा अपमान मत करो मुझे स्वयं अपने कर्मों पर _____ हो रहा है।

- Ans
- 1. तुष्टि
 - 2. पश्चाताप
 - 3. प्रताप
 - 4. संतोष

Question ID : 98958010014
Chosen Option : 2

Q.1
5 'बद्ध' शब्द का विलोम शब्द है-

- Ans
- 1. प्रतिबंध
 - 2. मुक्त
 - 3. मोक्ष
 - 4. बंधन

Question ID : 98958010024
Chosen Option : 3

Q.1
6 'सरस्वती' का पर्यावाची शब्द है।

- Ans
- 1. कामिनी
 - 2. ललना
 - 3. रमणी
 - 4. वागीश्वरी

Question ID : 98958010026
Chosen Option : 2

Q.1
7 दिए गए वाक्य का वह भाग ज्ञात करें जिसमें कोई त्रुटि है।

शब्दावली को अधिक उपयोगी बनाने के लिए हर संभव प्रयास किया गए हैं।

- Ans
- 1. बनाने के लिए
 - 2. अधिक उपयोगी

3. शब्दावली को
4. हर संभव प्रयास किया गए हैं।

Question ID : 98958010009
Chosen Option : 4

Q.1
8 'जहर का घूँट पीना' मुहावरे का सही अर्थ है -

- Ans
1. गुस्सा मन में दबा लेना
2. जोखिम में डाल देना
3. शर्मिंदा होना
4. खतरा उठाना

Question ID : 98958010028
Chosen Option : 1

Q.1
9 'अनुवाद' का पर्यायवाची शब्द है -

- Ans
1. विवाद
2. अनुकृति
3. प्रतिलिपि
4. भाषान्तर

Question ID : 98958010027
Chosen Option : 2

Q.2
0 सही वर्तनी वाले शब्द का चयन करें।

- Ans
1. ओशधि
2. औषधि
3. ओसधि
4. अवसधी

Question ID : 98958010033
Chosen Option : 2

Q.2
1 दिए गए वाक्य में रेखांकित खंड को प्रतिस्थापित करने के लिए उपयुक्त विकल्प का चयन करें।

जीवन में प्रफुल्लित रहना सीखो।

- Ans
1. प्रतिबन्धित
2. हर्षित
3. उत्तेजित
4. परिमित

Question ID : 98958010012
Chosen Option : 3

Q.2
2 दिए गए वाक्य में रेखांकित खंड को प्रतिस्थापित करने के लिए उपयुक्त विकल्प का चयन करें।

वेदान्ती लोग जगत को मिथ्या समझते हैं।

Ans

- 1. भंगुर
- 2. अस्थिर
- 3. असत्य
- 4. सत्य

Question ID : 98958010011
Chosen Option : 2

Q.2
3 सही वर्तनी वाले शब्द का चयन करें।

Ans

- 1. सव्दांश
- 2. शव्दांस
- 3. सबदांश
- 4. शव्दांश

Question ID : 98958010032
Chosen Option : 4

Q.2
4 दिए गए वाक्य का वह भाग ज्ञात करें जिसमें कोई त्रुटि है।

जिस नगर में एक सेठ रहता था, उसी नगर में अनेकों गरीब किसान भी रहते थे।

Ans

- 1. एक सेठ रहता था,
- 2. अनेकों गरीब किसान भी रहते थे।
- 3. उसी नगर में
- 4. जिस नगर में

Question ID : 98958010008
Chosen Option : 2

Q.2
5 रिक्त स्थान को भरने के लिए उपयुक्त शब्द का चयन करें।

संक्षेपण में शब्दों के प्रयोग में _____ से काम लेना चाहिए।

Ans

- 1. तीव्रता
- 2. क्रोध
- 3. अविवेक
- 4. संयम

Question ID : 98958010015
Chosen Option : 4

Constable (GD) in CAPFs, NIA, SSF and Rifleman (GD) in Assam Rifles Examination, 2018

Roll No. :	
Registration No.	
Name :	
Exam Venue :	
Exam Time :	4:00 PM - 5:30 PM
Exam Date :	11/03/2019

Section : General Section

Q.1 नीचे दिए गए दो कथनों के बाद I, II और III तीन निष्कर्ष दिए गए हैं। यह मानते हुए कि कथनों में दी गई जानकारी सत्य है, भले ही वह सर्वज्ञात तथ्यों से भिन्न प्रतीत होती हो और यह निर्णय करें कि कौन सा / से निष्कर्ष तार्किक और निश्चित रूप से कथन में दी गई जानकारी का अनुसरण करता है / करते हैं।

कथन 1: सभी बाघ बिल्लियाँ हैं।

कथन 2: सभी बिल्लियाँ: मार्जरीय हैं।

निष्कर्ष I: कुछ मार्जरीय बाघ हैं।

निष्कर्ष II: सभी बाघ मार्जरीय हैं।

निष्कर्ष III: कुछ मार्जरीय बिल्लियाँ हैं।

Ans 1. सभी निष्कर्ष I, II और III कथन का अनुसरण करते हैं।

2. केवल निष्कर्ष I अनुसरण करता है।

3. केवल निष्कर्ष I और III अनुसरण करते हैं।

4. केवल निष्कर्ष III अनुसरण करता है।

Question ID : 9895809385

Chosen Option : 4

Q.2 उस विकल्प का चयन करें जो सही रूप में रिक्त स्थान की पूर्ति करते हुए श्रृंखला को पूरा करें।

LM, QR, VW, _____

Ans 1. UK

2. SM

3. AB

4. AD

Question ID : 9895809373

Chosen Option : 3

Q.3 उस विकल्प का चयन करें जो तीसरे पद से उसी तरह संबंधित है जिस प्रकार दूसरा पद पहले पद से संबंधित है।

कलम : लिखना :: चाकू : _____

Ans 1. काटना

2. गोली मारना

3. सब्जी

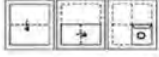
4. रक्त

Question ID : 9895809376

Chosen Option : 1

Q.4 नीचे प्रश्न आकृति में दर्शाये गए तरीके से एक कागज को मोड़ा और काटा गया है। इस कागज को खोलने पर दी गयी उत्तर आकृतियों में से कौन सी आकृति दिखाई देगी?

प्रश्न आकृति:



Ans

1.
2.
3.
4.

Question ID : 9895809396

Chosen Option : --

Q.5 उस विकल्प का चयन करें जो तीसरे पद से उसी तरह संबंधित है जिस प्रकार दूसरा पद पहले पद से संबंधित है।

TSQ : JHG :: LTM : ?

Ans

1.
2.
3.
4.

Question ID : 9895809378

Chosen Option : 1

Q.6 चार अक्षर समूह दिए गए हैं, जिनमें से तीन किसी तरह से समान हैं, जबकि एक अलग है। असंगत अक्षर समूह का चयन करें।

Ans

1.
2.
3.
4.

Question ID : 9895809374

Chosen Option : 3

Q.7 उस विकल्प का चयन करें जो तीसरे पद से उसी तरह संबंधित है जिस प्रकार दूसरा पद पहले पद से संबंधित है।

टेलीफोन : संचार :: रेडियो : _____

Ans

1.
2.
3.
4.

Question ID : 9895809377

Chosen Option : 2

Q.8 उस विकल्प का चयन करें जो सही रूप में रिक्त स्थान की पूर्ति करते हुए श्रृंखला को पूरा करें।

1024, _____, 1600, 2000, 2500, 3125

- Ans
- 1. 1350
 - 2. 1440
 - 3. 1125
 - 4. 1280

Question ID : 9895809387
Chosen Option : 1

Q.9 नीचे दी गई आकृति का अध्ययन करें और उस क्षेत्र की पहचान करें जो लड़कियाँ जो कि कार्यरत है लेकिन अविवाहित का प्रतिनिधित्व करता है।



- Ans
- 1. 4
 - 2. 5
 - 3. 2
 - 4. 1

Question ID : 9895809397
Chosen Option : 2

Q.1 एक निश्चित कूट भाषा में, COLD को GSPH के रूप में कूटबद्ध किया जाता है। उस कूट भाषा में NOT कैसे कूटबद्ध किया जाता है?

- Ans
- 1. RSY
 - 2. RSX
 - 3. XRS
 - 4. XSR

Question ID : 9895809379
Chosen Option : 2

Q.1 उस विकल्प का चयन करें जो दी गई आकृति श्रृंखला को पूरा करता है



- Ans
- 1.
 - 2.
 - 3.

✓ 4.



Question ID : 9895809392
Chosen Option : 3

Q.1 यदि MUNREB को 628146 और IESRES को 345145 के रूप में लिखते हैं, तो SERBER को कैसे लिखा जाएगा?

Ans

- ✗ 1. 451146
✓ 2. 541641
✗ 3. 541164
✗ 4. 541146

Question ID : 9895809380
Chosen Option : 2

Q.1 उस विकल्प आकृति का चयन करें, जिसमें प्रश्न आकृति छिपी हुई/ अंतर्निहित है।

प्रश्न आकृति:



Ans

- ✗ 1.
✓ 2.
✗ 3.
✗ 4.

Question ID : 9895809394
Chosen Option : 2

Q.1 * चिन्ह का स्थान लेने के लिए और समीकरण को संतुलित करने के लिये गनितिय चिन्हों के सही युग्म का चयन करें।

$$96 \div 2 \div 20 \div 2 \div 174$$

Ans

- ✗ 1. $\div \times + =$
✗ 2. $- + \times =$
✗ 3. $+ + \div =$
✓ 4. $\times - + =$

Question ID : 9895809391
Chosen Option : 2

Q.1 A, O, M, H, K और U केंद्र के सामने मुँह किए एक सर्कल में बैठे हैं। A, M या U के बगल में नहीं बैठा है, U, H के दाईं ओर है, K, M के बाईं ओर है, जो O के विपरीत है। O के दाईं ओर कौन है?

Ans

1. U
 2. K
 3. H
 4. A





Question ID : 9895809382
Chosen Option : 3

Q.1 6 उस विकल्प का चयन करें जो दर्पण के दायीं ओर रखे जाने पर दि गई आकृति की दर्पण छवि से सर्वाधिक मेल खाता है।

प्रश्न आकृति:

S

Ans

1. 
 2. 
 3. 
 4. 

Question ID : 9895809395
Chosen Option : 2

Q.1 7 A, B, C, D और E एक पंक्ति में बैठे हैं। C, D और A के बीच में है, E न तो अंत में है, न ही D के बगल में है और B के बायीं ओर है जो अंतिम है। D के दायीं में कौन है?

Ans

1. E
 2. B
 3. A
 4. C

Question ID : 9895809381
Chosen Option : 2

Q.1 8 चार शब्द दिए गए हैं, जिनमें से तीन किसी तरह से समान हैं, जबकि एक अलग है। असंगत शब्द का चयन करें।

Ans

1. स्कार्फ़
 2. दस्ताने
 3. धूपचश्मा
 4. स्वेटर

Question ID : 9895809375
Chosen Option : 3

Q.1 9 चार विकल्प दिए गए हैं, जिनमें से तीन किसी तरह से समान हैं, जबकि एक अलग है। असंगत का चयन करें।

Ans

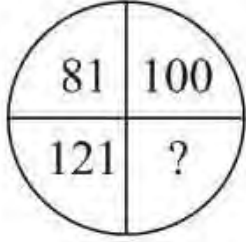
1. 97
 2. 199
 3. 167

✓ 4. 135

Question ID : 9895809389

Chosen Option : 3

Q.2
0 दिए गए विकल्पों में से लुप्त संख्या ज्ञात करें।



- Ans
- ✗ 1. 256
 - ✗ 2. 225
 - ✗ 3. 169
 - ✓ 4. 144

Question ID : 9895809390

Chosen Option : 4

Q.2 नीचे दिए गए कथनों के बाद दो निष्कर्ष I और II दिए गए हैं। यह मानते हुए कि कथनों में दी गई जानकारी सत्य है, भले ही वह सर्वज्ञात तथ्यों से भिन्न प्रतीत होती हो और यह निर्णय करें कि कौन सा / से निष्कर्ष तार्किक और निश्चित रूप से कथन में दी गई जानकारी का अनुसरण करता है / करते हैं।

कथन 1: सभी शंख, खाल हैं।

कथन 2: कोई खाल बिल्ली नहीं है।

निष्कर्ष I: कोई शंख बिल्ली नहीं है।

निष्कर्ष II: कुछ खाल शंख हैं।

- Ans
- ✗ 1. न निष्कर्ष I न ही निष्कर्ष II अनुसरण करता है।
 - ✗ 2. केवल निष्कर्ष I अनुसरण करता है।
 - ✓ 3. निष्कर्ष दोनों कथन का अनुसरण करते हैं।
 - ✗ 4. केवल निष्कर्ष II अनुसरण करता है।

Question ID : 9895809384

Chosen Option : 4

Q.2 उस विकल्प का चयन करें जो तीसरे पद से उसी तरह संबंधित है जिस प्रकार दूसरा पद पहले पद से संबंधित है।

4896 : 3785 :: 7852 : ?

- Ans
- ✗ 1. 5630
 - ✓ 2. 6741
 - ✗ 3. 4519
 - ✗ 4. 3438

Question ID : 9895809388

Chosen Option : 2

Q.2
3

छ: लड़के उत्तर की ओर मुंह किए हुए एक पंक्ति में बैठे हैं। गणेश, अक्षित के दाएँ 7वाँ है। विनय, जो पंक्ति के बाएँ छोर से 20वाँ है, अक्षित के दाएँ को 7वाँ है। यदि कमल जो गणेश के दाएँ को तीसरा है, पंक्ति के दाएँ छोर से 20वाँ है, तो पंक्ति में कुल कितने लड़के हैं ?

- Ans
- 1. 28
 - 2. 26
 - 3. 30
 - 4. 31

Question ID : 9895809383
Chosen Option : 3

Q.2 उस विकल्प का चयन करें जो सही रूप में रिक्त स्थान की पूर्ति करते हुए श्रृंखला को पूरा करें।

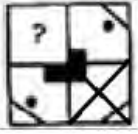
-1, 2, 7, _____, 23, 34

- Ans
- 1. 14
 - 2. 13
 - 3. 15
 - 4. 19

Question ID : 9895809386
Chosen Option : 1

Q.2 निम्नलिखित में से कौन सी उत्तर आकृति दी गई आकृति को पूरा करेगी?

प्रश्न आकृति:



- Ans
- 1.
 - 2.
 - 3.
 - 4.

Question ID : 9895809393
Chosen Option : 2

Q.2 पश्चिमी घाटों का प्रमुख अंतराल _____ में स्थित है।

- Ans
- 1. मणिपाल
 - 2. मदुरै
 - 3. पालघाट
 - 4. मेंगलोर

Question ID : 9895809569
Chosen Option : 3

Q.2
7 भारत में गरीबी रेखा को मापने के लिए उपयोग किए जाने वाला एक निर्वाह कारक कौन सा है?

- Ans
- 1. इंटरनेट
 - 2. शिक्षा
 - 3. परिवहन
 - 4. समानता

Question ID : 9895809557

Chosen Option : 1

Q.2
8 वस्तु एवं सेवा कर लागू करने पर भारत _____ बन गया है।

- Ans
- 1. एक पूर्वी एवं पश्चिमी बाज़ार
 - 2. एक सामान्य बाज़ार
 - 3. एक दक्षिण एवं उत्तरी बाज़ार
 - 4. भिन्न बाज़ारों का एक समूह

Question ID : 9895809559

Chosen Option : 4

Q.2
9 आगा खान महल किस राज्य में स्थित है?

- Ans
- 1. मध्य प्रदेश
 - 2. उत्तर प्रदेश
 - 3. केरल
 - 4. महाराष्ट्र

Question ID : 9895809550

Chosen Option : 2

Q.3
0 ब्रिटिश शासकों ने भारत पर लगभग कितने वर्षों तक शासन किया?

- Ans
- 1. 200 वर्ष
 - 2. 500 वर्ष
 - 3. 100 वर्ष
 - 4. 50 वर्ष

Question ID : 9895809571

Chosen Option : 3

Q.3
1 ओलम्पिक 2016 में पुरुष एकल बैडमिन्टन प्रतिस्पर्धा किसने जीती थी?

- Ans
- 1. ली चोंग वी
 - 2. लिन डैन
 - 3. किदांबी श्रीकांत
 - 4. चेन लॉन्ग

Question ID : 9895809551
Chosen Option : 2

Q.3
2 किसी पारिस्थितिकी के निर्माण में शामिल होते हैं:

- Ans
- 1. भौतिक और सामाजिक घटक
 - 2. जैविक और अजैविक घटक
 - 3. रासायनिक और भौतिक घटक
 - 4. जैविक और प्रतिजैविक घटक

Question ID : 9895809568
Chosen Option : 2

Q.3
3 'घुमुरा' लोकनृत्य का संबंध किस राज्य से है?

- Ans
- 1. तमिलनाडु
 - 2. केरल
 - 3. ओडिशा
 - 4. पंजाब

Question ID : 9895809548
Chosen Option : 2

Q.3
4 एक व्यक्ति जो धार्मिक संस्थानों से राज्य को अलग करने की वकालत करता है, उसे _____ कहा जाता है।

- Ans
- 1. धर्म निरपेक्षवादी
 - 2. साम्प्रदायिक
 - 3. समाजवादी
 - 4. नारीवादी

Question ID : 9895809560
Chosen Option : 3

Q.3
5 पौधों में प्रकाश संश्लेषण, प्रकाश ऊर्जा को _____ ऊर्जा में परिवर्तित करता है।

- Ans
- 1. थर्मल
 - 2. भौतिक
 - 3. गतिज
 - 4. रासायनिक

Question ID : 9895809565
Chosen Option : 4

Q.3
6 1965 के भारत-पाक युद्ध के दौरान भारत का नेतृत्व करने वाले प्रधानमंत्री कौन थे?

- Ans
- 1. जवाहरलाल नेहरू
 - 2. मोरारजी देसाई
 - 3. इंदिरा गांधी

✓ 4. लाल बहादुर शास्त्री

Question ID : 9895809555
Chosen Option : 1

Q.3
7 निम्नलिखित में से कौन स्वतंत्र भारत के पहले कानून मंत्री थे?

- Ans
- ✗ 1. आसफ अली
 - ✗ 2. जवाहरलाल नेहरू
 - ✓ 3. भीमराव रामजी अंबेडकर
 - ✗ 4. अबुल कलाम आज़ाद

Question ID : 9895809561
Chosen Option : 2

Q.3
8 चिपको आंदोलन भारत में सबसे पहले कहाँ शुरू हुआ था?

- Ans
- ✗ 1. महाराष्ट्र
 - ✗ 2. तमिलनाडु
 - ✓ 3. उत्तर प्रदेश
 - ✗ 4. कर्नाटक

Question ID : 9895809572
Chosen Option : 3

Q.3
9 _____ साम्राज्य के शासनकाल को भारतीय सभ्यता का स्वर्ण युग कहा जाता है।

- Ans
- ✗ 1. बुद्ध
 - ✗ 2. हर्ष
 - ✓ 3. गुप्त
 - ✗ 4. पोरस

Question ID : 9895809554
Chosen Option : 3

Q.4
0 रेल बजट _____

- Ans
- ✗ 1. केन्द्रीय बजट से अलग होता है।
 - ✗ 2. राज्य के बजट का हिस्सा होता है।
 - ✗ 3. केंद्र और राज्य के बजट से अलग होता है।
 - ✓ 4. केन्द्रीय बजट का भाग होता है।

Question ID : 9895809558
Chosen Option : 4

Q.4
1 2018 में ऑस्ट्रेलियाई ओपन टेनिस चैम्पियनशिप में पुरुष वर्ग का खिताब किसने जीता?

- Ans
- ✗ 1. राफेल नडाल

2. रोजर फेडरर
3. एंडी मरे
4. स्टेन वारविंका

Question ID : 9895809552
Chosen Option : 1

Q.4
2 भारतीय रिज़र्व बैंक की स्थापना किस वर्ष हुई थी?

- Ans 1. 1952
2. 1926
3. 1950
4. 1947

Question ID : 9895809556
Chosen Option : 1

Q.4
3 बंगाली के लिए साहित्य अकादमी पुरस्कार 2017 के विजेता हैं:

- Ans 1. अफसर अहमद
2. रमेश मेघ
3. डेविड भट्टाचार्य
4. हिमांशु बोस

Question ID : 9895809553
Chosen Option : 3

Q.4
4 विश्व की सबसे गहरी झील कौन सी है?

- Ans 1. सुपीरियर झील
2. बैकल झील
3. वोस्तोक झील
4. तंजानिका झील

Question ID : 9895809567
Chosen Option : 1

Q.4
5 छिमीदार / फलीदार पौधे _____ की उपस्थिति से मिट्टी की पूर्ति करते हैं।

- Ans 1. राइजोबियम
2. स्पिरोकेत
3. एक्वीफिसी
4. फर्मीक्यूट

Question ID : 9895809566
Chosen Option : 1

Q.4 6 रोग पैदा करने वाले सूक्ष्मजीवों को नष्ट करने और दूध की वैद्यता को बढ़ाने के लिए किस प्रक्रिया का उपयोग किया जाता है?

- Ans
- 1. संक्षेपन
 - 2. वाष्पीकरण
 - 3. पास्तुरीकरण
 - 4. हाइड्रोजनीकरण

Question ID : 9895809562
Chosen Option : 3

Q.4 7 किसी सफेद कपड़े में लगा करी का दाग साबुन लगाने पर लाल भूरे रंग में बदल जाता है, क्योंकि साबुन की प्रकृति होती है:

- Ans
- 1. क्षारीय
 - 2. अम्लीय
 - 3. क्षारकीय
 - 4. उदासीन

Question ID : 9895809564
Chosen Option : 2

Q.4 8 निम्नलिखित में से कौन एक कायान्तरित चट्टान नहीं है?

- Ans
- 1. स्लेट
 - 2. संगमरमर
 - 3. पट्टिताश्म / नाइस
 - 4. चूना पत्थर

Question ID : 9895809563
Chosen Option : 3

Q.4 9 दक्षिण के चोल शासकों के प्रभाव का काल था:

- Ans
- 1. 17वीं शताब्दी ईसवी सन्
 - 2. 9वीं शताब्दी ईसवी सन्
 - 3. 19वीं शताब्दी ईसवी सन्
 - 4. 9वीं शताब्दी ईसा पूर्व

Question ID : 9895809570
Chosen Option : 4

Q.5 0 'मटकी' किस राज्य की नृत्य शैली है?

- Ans
- 1. केरल
 - 2. मध्य प्रदेश
 - 3. पश्चिम बंगाल
 - 4. गुजरात

Question ID : 9895809549
Chosen Option : 1

Q.5
1 400 m लंबी एक ट्रेन 20 सेकंड में एक पोल से गुजरती है। ट्रेन की गति क्या है?

- Ans
- 1. 70 km/hr
 - 2. 72 km/hr
 - 3. 64 km/hr
 - 4. 68 km/hr

Question ID : 9895809743
Chosen Option : 2

Q.5
2 27 वस्तुओं की लागत मूल्य 18 वस्तुओं के विक्रय मूल्य के समान है। लाभ प्रतिशत क्या है?

- Ans
- 1. 40%
 - 2. 50%
 - 3. 25%
 - 4. 30%

Question ID : 9895809733
Chosen Option : 3

Q.5
3 एक लंब वृत्तीय शंकु की तिरछी ऊँचाई 15 m है और इसकी ऊँचाई 9 m है। इसका वक्र पृष्ठीय क्षेत्रफल है:

- Ans
- 1. $172 \pi \text{ m}^2$
 - 2. $180 \pi \text{ m}^2$
 - 3. $165 \pi \text{ m}^2$
 - 4. $169 \pi \text{ m}^2$

Question ID : 9895809739
Chosen Option : --

Q.5
4 बार ग्राफ जनवरी से जून तक प्रत्येक माह में एक आर्ट गैलरी द्वारा बेचे जाने वाले पेंटिंग्स की संख्या को दर्शाता है। 7 महीने में 90 के औसत के लिए जुलाई में कितने पेंटिंग्स को बेचने की आवश्यकता है?



- Ans
- 1. 115
 - 2. 110
 - 3. 85
 - 4. 90

Question ID : 9895809746
Chosen Option : 4

Q.5
5 $64 \div 2 \times (9 \div 3) \times 3 \div 9 - 32$ का मान है:

- Ans
- 1. 2

2. 1
 3. 0
 4. - 1

Question ID : 9895809726
 Chosen Option : 3

Q.5 एक बैग में 3 : 4 : 5 के अनुपात में 25 पैसे, 50 पैसे और 1 रुपये के सिक्के हैं। यदि सभी का कुल मूल्य ₹31 में हैं, तो बैग में 1 रुपये के कितने सिक्के हैं?

- Ans 1. 24
 2. 20
 3. 12
 4. 16

Question ID : 9895809736
 Chosen Option : 4

Q.5 5% प्रति वर्ष की दर से ₹360 का साधारण ब्याज ₹72 होने में कितना समय लगेगा?

- Ans 1. 2.5 वर्ष
 2. 4 वर्ष
 3. 3.5 वर्ष
 4. 3 वर्ष

Question ID : 9895809737
 Chosen Option : 3

Q.5 8 व्यक्तियों का औसत भार 2.5 kg बढ़ जाता है जब उनमें से 75 kg भार वाले एक व्यक्ति के स्थान पर एक नया व्यक्ति आता है। नए व्यक्ति का भार क्या है?

- Ans 1. 95 kg
 2. 85 kg
 3. 65 kg
 4. 75 kg

Question ID : 9895809723
 Chosen Option : --

Q.5 पाई चार्ट 2017 और 2018 में चावल बाजार में कंपनियों की बाजार हिस्सेदारी दिखाते हैं। 2017 में कंपनी A की बिक्री का मूल्य ₹40 लाख था। यदि 2018 में इसकी बिक्री में 25% की वृद्धि हुई, तो 2018 में कंपनी B की बिक्री का लगभग मूल्य क्या था?



- Ans 1. ₹12.56 लाख
 2. ₹12.96 लाख
 3. ₹13.56 लाख
 4. ₹13.96 लाख

Question ID : 9895809747
Chosen Option : 1

Q.6 वह न्यूनतम संख्या जिसे 2,397 में जोड़ने पर योग 3, 4, 5 और 6 से यथार्थतः विभाज्य हो, निम्न में से कौन सी है?

- Ans 1. 3
 2. 4
 3. 5
 4. 6

Question ID : 9895809730
Chosen Option : 1

Q.6 दो छात्र एक परीक्षा में बैठे। एक छात्र जिसने दूसरे से 20 अंक अधिक प्राप्त किए, उसके अंक दोनों अंकों के योग के 60% के बराबर थे। उसका स्कोर क्या था?

- Ans 1. 60
 2. 80
 3. 20
 4. 40

Question ID : 9895809731
Chosen Option : --

Q.6 लाइन ग्राफ लगातार 6 मैचों में एक बल्लेबाज के स्कोर को दर्शाता है। उसके अंकों का विस्तार (रेंज) क्या है?



- Ans 1. 53
 2. 51
 3. 41
 4. 43

Question ID : 9895809745
Chosen Option : 4

Q.6 एक शंकु बनाने के लिए भुजाओं 5 cm, 12 cm और 13 cm वाले एक समकोण त्रिभुज को भुजा 12 cm के परित घुमाया जाता है। इस तरह बने शंकु का आयतन है:

- Ans 1. $81 \pi \text{ cm}^3$
 2. $91 \pi \text{ cm}^3$
 3. $110 \pi \text{ cm}^3$
 4. $100 \pi \text{ cm}^3$

Question ID : 9895809740
Chosen Option : 2

Q.6 एक राशि 2 वर्ष में ₹720 और 3 वर्ष में ₹792 हो जाती है, जब ब्याज वार्षिक संयोजित होता है। ब्याज की वार्षिक दर प्रतिशत है:

- Ans 1. 7%

2. 5%
3. 10%
4. 7.50%

Question ID : 9895809727
Chosen Option : 3

Q.6 120 पुरुष 30 दिनों में 720 kg चावल की खपत करते हैं। 90 पुरुष कितने दिनों में 270 kg की खपत कर सकते हैं?

- Ans 1. 9
2. 12
3. 18
4. 15

Question ID : 9895809734
Chosen Option : 4

Q.6 24 ÷ 4 × (3 + 3) ÷ 2 का मान है:

- Ans 1. 18
2. 20
3. 22
4. 24

Question ID : 9895809725
Chosen Option : 1

Q.6 X की राय में, उसका भार 60 kg से अधिक है, लेकिन 68 kg से कम है, Y उससे सहमत नहीं है और कहता है कि X का भार 62 kg से अधिक है, लेकिन 70 kg से कम है। X की मांग का मानना है कि X का भार 64 किलो से अधिक है। यदि वे सभी अपने अनुमान में सही हैं, तो X के विभिन्न संभावित भार का औसत क्या है, यदि भार एक पूर्णांक में हैं?

- Ans 1. 66 kg
2. 68 kg
3. 65 kg
4. 67 kg

Question ID : 9895809724
Chosen Option : 1

Q.6 चावल के मूल्य में 20% की छूट मिलने से X ₹100 में 5 किलोग्राम चावल और खरीद सकता है। चावल का प्रति किलो घटा हुआ मूल्य क्या है?

- Ans 1. ₹4
2. ₹3
3. ₹1
4. ₹2

Question ID : 9895809728
Chosen Option : 2

Q.6 A और B मिलकर एक कार्य को 40 दिनों में पूरा कर सकते हैं। उन्होंने 30 दिनों तक एक साथ मिलकर काम किया और फिर B ने काम छोड़ दिया। शेष काम A ने अगले 22 दिन में पूरा किया। A अकेला कितने दिनों में उस कार्य को पूरा कर सकता है?

- Ans
- 1. 88 दिन
 - 2. 48 दिन
 - 3. 40 दिन
 - 4. 30 दिन

Question ID : 9895809742
Chosen Option : 2

Q.7 एक कॉलेज में लड़कों और लड़कियों की संख्या का अनुपात 6 : 7 है। यदि लड़कों और लड़कियों की संख्या में प्रतिशत वृद्धि क्रमशः 20% और 10% है, तो नया अनुपात क्या होगा?

- Ans
- 1. 36 : 35
 - 2. 35 : 36
 - 3. 72 : 77
 - 4. 77 : 72

Question ID : 9895809735
Chosen Option : 2

Q.7 एक खोखले तांबे का पाइप 22 cm लंबा है और इसका बाहरी व्यास 28 cm है। यदि पाइप की मोटाई 3 cm है और लोहे का वजन 8.5 g/cm^3 है, तो पाइप का भार निम्न के निकटतम है:

- Ans
- 1. 34 kg
 - 2. 44 kg
 - 3. 14 kg
 - 4. 24 kg

Question ID : 9895809738
Chosen Option : 3

Q.7 A और B क्रमशः 40 दिनों और 16 दिनों में एक कार्य को पूरा कर सकते हैं। A ने अकेले कार्य शुरू किया और फिर 12 दिनों के बाद B ने कार्य पूरा होने तक A के साथ काम किया। B के कार्य में शामिल होने के बाद कार्य कितने समय तक चला?

- Ans
- 1. 14 दिन
 - 2. 6 दिन
 - 3. 8 दिन
 - 4. 12 दिन

Question ID : 9895809741
Chosen Option : 3

Q.7 एक वस्तु को ₹4,000 में बेचा गया था। अगर 10% की छूट दी गयी होती, तो लाभ 20% होता। वस्तु का लागत मूल्य था:

- Ans
- 1. ₹3,310
 - 2. ₹3,000
 - 3. ₹3,200
 - 4. ₹3,600

Question ID : 9895809732
Chosen Option : 2

Q.7 बिना किसी स्टॉप पर रुके एक बस की चाल 70 kmph है और जब यह स्टॉपों पर रुकती है तब इसकी चाल 56 kmph है। प्रति घंटे बस कितने मिनट के लिए रुकती है?

- Ans
- 1. 8 मिनट
 - 2. 10 मिनट
 - 3. 12 मिनट
 - 4. 15 मिनट

Question ID : 9895809744
Chosen Option : 3

Q.7 31, 25, 17, 23, 45 और 59 का माध्यक है:

- Ans
- 1. 28
 - 2. 31
 - 3. 25
 - 4. 23

Question ID : 9895809729
Chosen Option : 3

Section : English Language

Q.1 Select the most appropriate word to fill in the blank.

We should take _____ measures to prevent recurrence of such incidents.

- Ans
- 1. substitute
 - 2. properly
 - 3. casual
 - 4. effective

Question ID : 9895809929
Chosen Option : --

Q.2 Select the meaning of the given idiom.

A snake in the grass

- Ans
- 1. Low and mean
 - 2. Cowardly and brutal
 - 3. A hidden enemy
 - 4. An unreliable person

Question ID : 9895809922
Chosen Option : --

Q.3 Select the antonym of the given word.

ILLICIT

- Ans
- 1. Lawful
 - 2. Illegal

3. Illegitimate

4. Unlawful

Question ID : 9895809921

Chosen Option : --

Q.4 Select the synonym of the given word.

ISOLATION

Ans 1. Integration

2. Separation

3. Association

4. Communication

Question ID : 9895809918

Chosen Option : --

Q.5 Select the synonym of the given word.

INTEGRATION

Ans 1. Segregation

2. Division

3. Separation

4. Unification

Question ID : 9895809919

Chosen Option : --

Q.6 Select the word which means the same as the group of words given.

A sentimental longing or wistful affection for a period in the past

Ans 1. Harmony

2. Paradise

3. Nostalgia

4. Affliction

Question ID : 9895809924

Chosen Option : --

Q.7 Select the most appropriate option to substitute the underlined segment in the given sentence. If there is no need to substitute it, select No substitution required.

The term flora is use for denote plants of a particular region or period.

Ans 1. used denoting

2. No substitution required

3. used to denote

4. denoting

Question ID : 9895809907

Chosen Option : --

Q.8 Select the most appropriate option to substitute the underlined segment in the given sentence. If there is no need to substitute it, select No substitution required.

The greed of human beings leads to over utilization of natural resources.

- Ans
- 1. leading to
 - 2. No substitution required
 - 3. leads for
 - 4. lead to

Question ID : 9895809909

Chosen Option : --

Q.9 Select the most appropriate word to fill in the blank.

The house remained _____ for a long time.

- Ans
- 1. evicted
 - 2. blank
 - 3. vacant
 - 4. empty

Question ID : 9895809928

Chosen Option : --

Q.10 Identify the segment in the sentence which contains the grammatical error from the given options.

Concern above rising pollution led to the launch of various action plans.

- Ans
- 1. led to
 - 2. launch of
 - 3. Concern above
 - 4. action plans

Question ID : 9895809906

Chosen Option : --

Q.11 Select the word which means the same as the group of words given.

Violation of something holy or sacred

- Ans
- 1. Sacrilege
 - 2. Pious
 - 3. Ritual
 - 4. Ceremony

Question ID : 9895809925

Chosen Option : --

Q.12 Select the wrongly spelt word.

- Ans
- 1. Sacrifice
 - 2. Schedule
 - 3. Salry

4. Sanctity

Question ID : 9895809927
Chosen Option : --

Q.1 Identify the segment in the sentence which contains the grammatical error from the given options.

3

Rivers has been of primary importance for human settlements since ancient times.

Ans

1. Rivers has been
 2. of primary importance
 3. since ancient times.
 4. for human settlements

Question ID : 9895809905
Chosen Option : --

Q.1 Select the most appropriate word to fill in the blank.

4

Dense mangroves are common varieties with roots submerged _____ water.

Ans

1. beside
 2. over
 3. behind
 4. under

Question ID : 9895809910
Chosen Option : --

Q.1 Select the most appropriate option to substitute the underlined segment in the given sentence. If there is no need to substitute it, select No substitution required.

5

When the vegetation is altered, the animal life also changed.

Ans

1. is changing
 2. No substitution required
 3. changed
 4. also changes

Question ID : 9895809908
Chosen Option : --

Q.1 Select the meaning of the given idiom.

6

Piece of cake

Ans

1. Something very difficult
 2. Something very soft
 3. Something very tasty
 4. Something very easy

Question ID : 9895809923
Chosen Option : --

Q.1 Select the wrongly spelt word.

7

- Ans
- 1. Ninety
 - 2. Neccessary
 - 3. Neither
 - 4. Noticeable

Question ID : 9895809926
Chosen Option : --

Q.1
8 Select the most appropriate word to fill in the blank.

The elephants are the most majestic animals _____ the mammals.

- Ans
- 1. among
 - 2. between
 - 3. as
 - 4. over

Question ID : 9895809911
Chosen Option : --

Comprehension:

In the following passage some words have been deleted. Fill in the blanks with the help of the alternatives given. Select the most appropriate option for each number.

Can you (1) _____ a world without human beings? Who but humans (2) _____ have utilized the resources and created a (3) _____ and cultural environment? The people living in a country are imp ortant to (4) _____ the economy and the society. They (5) _____ are the greatest resource.

SubQuestion No : 19

Q.1
9 Select the most appropriate option that will fill in the blank number 1.

- Ans
- 1. realize
 - 2. imagine
 - 3. figure
 - 4. devise

Question ID : 9895809913
Chosen Option : --

Comprehension:

In the following passage some words have been deleted. Fill in the blanks with the help of the alternatives given. Select the most appropriate option for each number.

Can you (1) _____ a world without human beings? Who but humans (2) _____ have utilized the resources and created a (3) _____ and cultural environment? The people living in a country are imp ortant to (4) _____ the economy and the society. They (5) _____ are the greatest resource.

SubQuestion No : 20

Q.2
0 Select the most appropriate option that will fill in the blank number 2.

Ans

- 1. could
- 2. can
- 3. will
- 4. would

Question ID : 9895809914

Chosen Option : --

Comprehension:

In the following passage some words have been deleted. Fill in the blanks with the help of the alternatives given. Select the most appropriate option for each number.

Can you (1) _____ a world without human beings? Who but humans (2) _____ have utilized the resources and created a (3) _____ and cultural environment? The people living in a country are important to (4) _____ the economy and the society. They (5) _____ are the greatest resource.

SubQuestion No : 21

Q.2
1 Select the most appropriate option that will fill in the blank number 3.

- Ans
- 1. communal
 - 2. social
 - 3. general
 - 4. familiar

Question ID : 9895809915

Chosen Option : --

Comprehension:

In the following passage some words have been deleted. Fill in the blanks with the help of the alternatives given. Select the most appropriate option for each number.

Can you (1) _____ a world without human beings? Who but humans (2) _____ have utilized the resources and created a (3) _____ and cultural environment? The people living in a country are important to (4) _____ the economy and the society. They (5) _____ are the greatest resource.

SubQuestion No : 22

Q.2
2 Select the most appropriate option that will fill in the blank number 4.

- Ans
- 1. evolve
 - 2. mature
 - 3. develop
 - 4. establish

Question ID : 9895809916

Chosen Option : --

Comprehension:

In the following passage some words have been deleted. Fill in the blanks with the help of the alternatives given. Select the most appropriate option for each number.

Can you (1) _____ a world without human beings? Who but humans (2) _____ have utilized the resources and created a (3) _____ and cultural environment? The people living in a country are imp ortant to (4) _____ the economy and the society. They (5) _____ are the greatest resource.

SubQuestion No : 23

Q.2
3 Select the most appropriate option that will fill in the blank number 5.

- Ans
- 1. yourselves
 - 2. themselves
 - 3. itself
 - 4. ourselves

Question ID : 9895809917
Chosen Option : --

Q.2
4 Select the antonym of the given word.

ABUNDANT

- Ans
- 1. Ample
 - 2. Plentiful
 - 3. Copious
 - 4. Scarce

Question ID : 9895809920
Chosen Option : --

Q.2
5 Identify the segment in the sentence which contains the grammatical error from the given options.

Most of the freshwater lake in India are in the Himalayan region.

- Ans
- 1. Most of the
 - 2. are in
 - 3. in India
 - 4. freshwater lake

Question ID : 9895809904
Chosen Option : --

Section : Hindi Language

Q.1 'प्रशंसक' का विलोम शब्द है -

- Ans
- 1. निन्दक
 - 2. कटु
 - 3. अन्धकार
 - 4. समीक्षक

Question ID : 98958010050

Chosen Option : 1

Q.2 रिक्त स्थान को भरने के लिए उपयुक्त शब्द का चयन करें।

वर्तमान _____ में भी महात्मा गांधी के विचारों का महत्व कम नहीं होता।

- Ans
- 1. कार्यकलापों
 - 2. घटनाओं
 - 3. क्षेत्र
 - 4. संदर्भ

Question ID : 98958010042

Chosen Option : 3

Q.3 'जिसका परिमाण न जाना जा सके' के लिए एक शब्द प्रयुक्त होता है-

- Ans
- 1. अपरिमेय
 - 2. अपरिहार्य
 - 3. अपरिमाण
 - 4. अपरिणाम

Question ID : 98958010057

Chosen Option : 3

Q.4 रिक्त स्थान को भरने के लिए उपयुक्त शब्द का चयन करें।

इस मूर्ति में मानो ईश्वर ही _____ हो गए हैं।

- Ans
- 1. निराकार
 - 2. साकार
 - 3. विकार
 - 4. आकार

Question ID : 98958010041

Chosen Option : 4

Q.5 दिए गए वाक्य में रेखांकित खंड को प्रतिस्थापित करने के लिए उपयुक्त विकल्प का चयन करें।

तुम्हारी बात बहुत ही तकलीफ देने वाली है।

- Ans
- 1. कष्टसाध्य
 - 2. कष्टभावी
 - 3. आकृष्ट
 - 4. कष्टदायी

Question ID : 98958010039

Chosen Option : 4

Q.6 'तलवार की धार पर चलना' मुहावरे का सही अर्थ है -

- Ans
- 1. सीधी रेखा पर चलना

- 2. सरल कार्य करना
- 3. मेहनत करना
- 4. संकटपूर्ण कठिन काम करना

Question ID : 98958010054
Chosen Option : 4

Q.7 दिए गए वाक्य का वह भाग ज्ञात करें जिसमें कोई त्रुटि है।

बच्चों ने साधनों के अभाव में पढ़ना छोड़ दी।

- Ans
- 1. बच्चों ने
 - 2. पढ़ना छोड़ दी।
 - 3. साधनों के
 - 4. अभाव में

Question ID : 98958010036
Chosen Option : 2

Q.8 दिए गए वाक्य का वह भाग ज्ञात करें जिसमें कोई त्रुटि है।

अपनी जीभ को लगाम दो अन्यथा ठीक नहीं होगी।

- Ans
- 1. ठीक नहीं होगी।
 - 2. अपनी जीभ को
 - 3. अन्यथा
 - 4. लगाम दो

Question ID : 98958010035
Chosen Option : 1

Q.9 'उत्सुक' का पर्यायवाची शब्द है -

- Ans
- 1. आतुर
 - 2. हौसला
 - 3. जलसा
 - 4. मेहनती

Question ID : 98958010053
Chosen Option : 2

Q.10 सही वर्तनी वाले शब्द का चयन करें।

- Ans
- 1. दृस्टि
 - 2. द्विष्टि
 - 3. दृष्टी
 - 4. दृष्टि

Question ID : 98958010059
Chosen Option : 4

Q.1
1 'अतिवृष्टि' का विलोम शब्द है -

- Ans
- 1. अनावृष्टि
 - 2. अन्यवृष्टि
 - 3. प्रतिवृष्टि
 - 4. वृष्टि

Question ID : 98958010051
Chosen Option : 3

Q.1
2 'आयुष्मान' का पर्यायवाची शब्द है -

- Ans
- 1. प्रसन्नता
 - 2. हर्ष
 - 3. मान्यवर
 - 4. चिरायु

Question ID : 98958010052
Chosen Option : 3

Q.1
3 दिए गए वाक्य का वह भाग ज्ञात करें जिसमें कोई त्रुटि है।

प्राचीन काल में होली का त्योहार समूह तौर में मनाया जाता था।

- Ans
- 1. मनाया जाता था।
 - 2. प्राचीन काल में
 - 3. होली का त्योहार
 - 4. समूह तौर में

Question ID : 98958010034
Chosen Option : 3

Q.1
4 'व्यर्थ खर्च करने वाला' के लिए एक शब्द प्रयुक्त होता है-

- Ans
- 1. खर्चीला
 - 2. मितव्ययी
 - 3. व्यापारी
 - 4. अपव्ययी

Question ID : 98958010056
Chosen Option : 1

Q.1
5 दिए गए वाक्य में रेखांकित खंड को प्रतिस्थापित करने के लिए उपयुक्त विकल्प का चयन करें।

शरण में आये व्यक्ति की सुरक्षा करनी चाहिये।

Ans

- 1. शरणप्रिय
- 2. शरणमुक्त
- 3. आरक्षित
- 4. शरणागत

Question ID : 98958010038
Chosen Option : 2

Q.1
6 'हाथ मलते रह जाना' मुहावरे का सही अर्थ है -

- Ans
- 1. मालिश करना
 - 2. पछताना
 - 3. हाथों को गरम करना
 - 4. बेकार का काम करना

Question ID : 98958010055
Chosen Option : 2

Q.1
7 रिक्त स्थान को भरने के लिए उपयुक्त शब्द का चयन करें।

मैंने इस कार्य के लिए अधिकारियों से _____ स्वीकृति प्राप्त कर ली है।

- Ans
- 1. निहित
 - 2. वांछित
 - 3. वास्तव
 - 4. अस्पष्ट

Question ID : 98958010043
Chosen Option : 1

Q.1
8 सही वर्तनी वाले शब्द का चयन करें।

- Ans
- 1. नक्षत्र
 - 2. नच्छत्र
 - 3. नक्षित्र
 - 4. नछत्र

Question ID : 98958010058
Chosen Option : 1

Comprehension:

निम्नलिखित गद्यांश के रिक्त स्थानों की पूर्ति गद्यांश के नीचे दिए गए प्रश्नों के अनुसार कीजिए-

कई दिन वहाँ रहने पर मुझे इस साध्वी की _____ (1) के बारे में बहुत कुछ मालूम हो गया। प्रातःकाल उसके आश्रम से निरन्तर आती हुई तुलसीदास के भजनों की स्वर लहरी मेरी सोई हुई आत्मा को _____ (2) कर देती थी। कितने दिनों से मैं रेल-पेल व भागमभाग से _____ (3) वातावरण में आने की बात सोच रहा था। इस युग में भविष्य के प्रति _____ (4) हमें जल्दी निर्णय लेने से रोकती रहती है। फिर भी भीड़ से दूर निकलने की बलवती _____ (5) किसके मन में रह-रह कर नहीं जाग उठती है?

SubQuestion No : 19

Q.1 गद्यांश में संकेतित रिक्त स्थान (1) के लिए उपयुक्त शब्द होगा।

- Ans
- 1. परिचर्चा
 - 2. परिक्रमा
 - 3. परिचर्या
 - 4. दिनचर्या

Question ID : 98958010045

Chosen Option : 4

Comprehension:

निम्नलिखित गद्यांश के रिक्त स्थानों की पूर्ति गद्यांश के नीचे दिए गए प्रश्नों के अनुसार कीजिए-

कई दिन वहाँ रहने पर मुझे इस साध्वी की _____ (1) के बारे में बहुत कुछ मालूम हो गया। प्रातःकाल उसके आश्रम से निरन्तर आती हुई तुलसीदास के भजनों की स्वर लहरी मेरी सोई हुई आत्मा को _____ (2) कर देती थी। कितने दिनों से मैं रेल-पेल व भागमभाग से _____ (3) वातावरण में आने की बात सोच रहा था। इस युग में भविष्य के प्रति _____ (4) हमें जल्दी निर्णय लेने से रोकती रहती है। फिर भी भीड़ से दूर निकलने की बलवती _____ (5) किसके मन में रह-रह कर नहीं जाग उठती है?

SubQuestion No : 20

Q.2 गद्यांश में संकेतित रिक्त स्थान (2) के लिए उपयुक्त शब्द होगा।

- Ans
- 1. चंचल
 - 2. जागृत
 - 3. उदास
 - 4. विचलित

Comprehension:

निम्नलिखित गद्यांश के रिक्त स्थानों की पूर्ति गद्यांश के नीचे दिए गए प्रश्नों के अनुसार कीजिए-

कई दिन वहाँ रहने पर मुझे इस साध्वी की _____ (1) के बारे में बहुत कुछ मालूम हो गया। प्रातःकाल उसके आश्रम से निरन्तर आती हुई तुलसीदास के भजनों की स्वर लहरी मेरी सोई हुई आत्मा को _____ (2) कर देती थी। कितने दिनों से मैं रेल-पेल व भागमभाग से _____ (3) वातावरण में आने की बात सोच रहा था। इस युग में भविष्य के प्रति _____ (4) हमें जल्दी निर्णय लेने से रोकती रहती है। फिर भी भीड़ से दूर निकलने की बलवती _____ (5) किसके मन में रह-रह कर नहीं जाग उठती है?

SubQuestion No : 21

Q.2
1 गद्यांश में संकेतित रिक्त स्थान (3) के लिए उपयुक्त शब्द होगा।

- Ans
- 1. दूषित
 - 2. संलग्न
 - 3. शांत
 - 4. प्रभावित

Comprehension:

निम्नलिखित गद्यांश के रिक्त स्थानों की पूर्ति गद्यांश के नीचे दिए गए प्रश्नों के अनुसार कीजिए-

कई दिन वहाँ रहने पर मुझे इस साध्वी की _____ (1) के बारे में बहुत कुछ मालूम हो गया। प्रातःकाल उसके आश्रम से निरन्तर आती हुई तुलसीदास के भजनों की स्वर लहरी मेरी सोई हुई आत्मा को _____ (2) कर देती थी। कितने दिनों से मैं रेल-पेल व भागमभाग से _____ (3) वातावरण में आने की बात सोच रहा था। इस युग में भविष्य के प्रति _____ (4) हमें जल्दी निर्णय लेने से रोकती रहती है। फिर भी भीड़ से दूर निकलने की बलवती _____ (5) किसके मन में रह-रह कर नहीं जाग उठती है?

SubQuestion No : 22

Q.2
2 गद्यांश में संकेतित रिक्त स्थान (4) के लिए उपयुक्त शब्द होगा।

- Ans
- 1. आशंका
 - 2. आशा

3. निश्चिन्त

4. हताशा

Question ID : 98958010048
Chosen Option : 2

Comprehension:

निम्नलिखित गद्यांश के रिक्त स्थानों की पूर्ति गद्यांश के नीचे दिए गए प्रश्नों के अनुसार कीजिए-

कई दिन वहाँ रहने पर मुझे इस साध्वी की _____ (1) के बारे में बहुत कुछ मालूम हो गया। प्रातःकाल उसके आश्रम से निरन्तर आती हुई तुलसीदास के भजनों की स्वर लहरी मेरी सोई हुई आत्मा को _____ (2) कर देती थी। कितने दिनों से मैं रेल-पेल व भागमभाग से _____ (3) वातावरण में आने की बात सोच रहा था। इस युग में भविष्य के प्रति _____ (4) हमें जल्दी निर्णय लेने से रोकती रहती है। फिर भी भीड़ से दूर निकलने की बलवती _____ (5) किसके मन में रह-रह कर नहीं जाग उठती है?

SubQuestion No : 23

Q.2
3 गद्यांश में संकेतित रिक्त स्थान (5) के लिए उपयुक्त शब्द होगा।

- Ans
1. उत्सुकता
2. इच्छा
3. लालसा
4. तृष्णा

Question ID : 98958010049
Chosen Option : 3

Q.2
4 दिए गए वाक्य में रेखांकित खंड को प्रतिस्थापित करने के लिए उपयुक्त विकल्प का चयन करें।

अहंकार से भरा व्यक्ति समाज में कभी आदर नहीं पाता ।

- Ans
1. मदांध
2. मदमुक्त
3. मदालस
4. मदपायी

Question ID : 98958010037
Chosen Option : 1

Q.2
5 रिक्त स्थान को भरने के लिए उपयुक्त शब्द का चयन करें।

कलाकार में जन्मजात _____ होती है।

- Ans
1. प्रतिभा
2. शक्ति

- 3. रुचि
- 4. विधा

Question ID : 98958010040
Chosen Option : 3

KD Job Updates