

Multi Tasking Non Technical Staff and Havaladar CBIC and CBN Examination 2023

Roll Number	KD Job Updates
Candidate Name	KD Job Updates
Venue Name	ANAND INTERNATIONAL COLLEGE OF ENGINEERING JAIPUR
Exam Date	01/09/2023
Exam Time	9:00 AM - 11:00 AM
Subject	MTS Non Tech Havaladar CBIC and CBN Examination 2023

Section : Numerical and Mathematical Ability

Q.1 एक ट्रक चालक ने तीन घंटे तक 60 km/h की चाल से गाड़ी चलाई। फिर वह एक घंटे के लिए रुक गया और कहीं नहीं गया। फिर, उसने 60 km/h की चाल से चार घंटे गाड़ी और चलाई। चालक की औसत चाल (km/h में) क्या थी?

- Ans
- 1. 50.5
 - 2. 62.4
 - 3. 42.8
 - 4. 52.5

Question ID : 264330156099

Option 1 ID : 264330611795

Option 2 ID : 264330611798

Option 3 ID : 264330611797

Option 4 ID : 264330611796

Status : Answered

Chosen Option : 1

Q.2 दो व्यक्ति क्रमशः 77 cm और 88 cm के कदम बढ़ाते हैं। यदि वे दोनों कदम बढ़ाते हुए साथ में चलना शुरू करते हैं, तो उन्हें न्यूनतम कितनी दूरी (cm में) तय करनी चाहिए ताकि वे दोनों फिर से हम कदम (पूरे कदमों में दूरी तय कर सकें) हो जाएं?

- Ans
- 1. 616
 - 2. 968
 - 3. 828
 - 4. 560

Question ID : 264330156295

Option 1 ID : 264330612582

Option 2 ID : 264330612581

Option 3 ID : 264330612580

Option 4 ID : 264330612579

Status : Answered

Chosen Option : 1

Q.3 दो संख्याएँ A और B इस प्रकार हैं कि A के 6% और B के 4% का योग, A के 7% और B के 11% के योग का $\frac{2}{5}$ है, तो अनुपात A : B का मान क्या है?

- Ans**
- 1. 1 : 7
 - 2. 5 : 8
 - 3. 1 : 8
 - 4. 3 : 7

Question ID : 264330154088
Option 1 ID : 264330603815
Option 2 ID : 264330603818
Option 3 ID : 264330603817
Option 4 ID : 264330603816
Status : Answered
Chosen Option : 3

Q.4 एक धातु के गोले का व्यास 6 cm है। इसे पिघलाकर एक तार बनाया जाता है, जिसके अनुप्रस्थ काट का व्यास 0.4 cm है। तार की लंबाई (मीटर में) शत कीजिए।

- Ans**
- 1. 12
 - 2. 18
 - 3. 9
 - 4. 10

Question ID : 264330153866
Option 1 ID : 264330602928
Option 2 ID : 264330602930
Option 3 ID : 264330602929
Option 4 ID : 264330602927
Status : Answered
Chosen Option : 1

Q.5 एक पंसारी को क्रमशः ₹128 और ₹143 प्रति किलोग्राम मूल्य के चावल की दो किस्मों को किस अनुपात में मिलाना चाहिए ताकि ₹137.75 प्रति किलोग्राम मूल्य वाला चावल का मिश्रण प्राप्त हो?

- Ans**
- 1. 12:5
 - 2. 5:4
 - 3. 7:13
 - 4. 6:7

Question ID : 264330153759
Option 1 ID : 264330602499
Option 2 ID : 264330602501
Option 3 ID : 264330602500
Option 4 ID : 264330602502
Status : Answered
Chosen Option : 1

Q.6 एक नाव बिंदु A से बिंदु B तक धारा के अनुकूल यात्रा करने तथा A और B के बीच स्थित एक मध्य बिंदु C पर वापस आने में 20 घंटे का समय लेती है। धारा की चाल 5 km/h है और स्थिर जल में नाव की चाल 10 km/h है। A और B के बीच की दूरी (km) में ज्ञात कीजिए।

- Ans**
- ✓ 1. 120
 - ✗ 2. 100
 - ✗ 3. 150
 - ✗ 4. 75

Question ID : 264330153854
Option 1 ID : 264330602879
Option 2 ID : 264330602880
Option 3 ID : 264330602881
Option 4 ID : 264330602882
Status : Answered
Chosen Option : 3

Q.7 राजू ने रवि को 10% के लाभ पर एक वस्तु बेची। रवि ने रामू को 10% हानि पर यह वस्तु बेच दी। यदि रामू ने रवि को ₹1,485 का भुगतान किया, तो राजू ने रवि को किस मूल्य पर वस्तु बेची।

- Ans**
- ✗ 1. ₹1,500
 - ✗ 2. ₹1,600
 - ✗ 3. ₹1,200
 - ✓ 4. ₹1,650

Question ID : 264330153840
Option 1 ID : 264330602823
Option 2 ID : 264330602824
Option 3 ID : 264330602825
Option 4 ID : 264330602826
Status : Answered
Chosen Option : 1

Q.8 A, B और C एक काम को क्रमशः 10, 15, 12 दिनों में कर सकते हैं। A और B प्रत्येक दिन बारी-बारी से 5 दिनों तक काम करते हैं और फिर काम छोड़ देते हैं। फिर C शामिल होकर शेष काम को पूरा करता है। C ने शेष काम को कितने दिनों में पूरा किया?

- Ans**
- ✓ 1. 2
 - ✗ 2. 3
 - ✗ 3. 4
 - ✗ 4. 1

Question ID : 264330153856
Option 1 ID : 264330602889
Option 2 ID : 264330602888
Option 3 ID : 264330602887
Option 4 ID : 264330602890
Status : Answered
Chosen Option : 1

Q.9 सरल कीजिए।

$$(13 \div 13 \text{ of } 13 + 13)/(13 \div 13 \times 13 + 13)$$

- Ans
- 1. $\frac{13}{96}$
 - 2. $\frac{15}{26}$
 - 3. $\frac{85}{169}$
 - 4. $\frac{1}{26}$

Question ID : 264330156088

Option 1 ID : 264330611754

Option 2 ID : 264330611752

Option 3 ID : 264330611753

Option 4 ID : 264330611751

Status : Answered

Chosen Option : 4

Q.10 37 विद्यार्थियों की एक कक्षा में 22 लड़कियां हैं। इन लड़कियों का औसत भार 46 kg है और पूरी कक्षा का औसत भार 50 kg है। उस कक्षा में लड़कों का औसत भार (kg में) कितना है? (दशमलव के 2 स्थानों तक सन्निकटित)

- Ans
- 1. 58.25
 - 2. 61.35
 - 3. 60.74
 - 4. 55.87

Question ID : 264330155728

Option 1 ID : 264330610316

Option 2 ID : 264330610318

Option 3 ID : 264330610317

Option 4 ID : 264330610315

Status : Answered

Chosen Option : 4

Q.11 निम्नलिखित तालिका में चार अलग-अलग शहरों A, B, C, D से एक प्रवेश परीक्षा में शामिल होने वाले उम्मीदवारों की संख्या तथा उत्तीर्ण और अनुत्तीर्ण होने वाले उम्मीदवारों के अनुपात को दर्शाया गया है। तालिका का ध्यानपूर्वक अध्ययन कीजिए और प्रश्न का उत्तर दीजिए।

शहर	परीक्षा में शामिल होने वाले उम्मीदवारों की संख्या	उत्तीर्ण और अनुत्तीर्ण का अनुपात
A	660	5 : 6
B	650	2 : 3
C	500	3 : 2
D	630	4 : 5

किस शहर में प्रवेश परीक्षा में अनुत्तीर्ण होने वाले उम्मीदवारों की संख्या सबसे अधिक है और उस शहर में उसकी प्रतिशत की दर क्रमशः ज्ञात कीजिए?

- Ans**
- ✓ 1. B, 60%
 - ✗ 2. D, 60%
 - ✗ 3. C, 50%
 - ✗ 4. A, 50%

Question ID : 264330156014

Option 1 ID : 264330611457

Option 2 ID : 264330611455

Option 3 ID : 264330611458

Option 4 ID : 264330611456

Status : Answered

Chosen Option : 1

Q.12 यदि पहली संख्या, तीसरी संख्या से 20% कम है तथा दूसरी और तीसरी संख्या का अनुपात 7 : 10 है, तो पहली और तीसरी संख्या का औसत, दूसरी संख्या से कितने प्रतिशत अधिक है?

- Ans**
- ✗ 1. $26\frac{4}{7}$
 - ✗ 2. $28\frac{2}{7}$
 - ✗ 3. $24\frac{2}{7}$
 - ✓ 4. $28\frac{4}{7}$

Question ID : 264330155958

Option 1 ID : 264330611234

Option 2 ID : 264330611232

Option 3 ID : 264330611233

Option 4 ID : 264330611231

Status : Answered

Chosen Option : 4

Q.13 एक वस्तु का क्रय मूल्य ₹ 4,350 है। यदि इसे ₹5,680 में बेचा जाता है तो लाभ प्रतिशत (दशमलव के 1 स्थान तक सन्निकटित) क्या है?

- Ans**
- 1. 40.7%
 - 2. 28.5%
 - 3. 30.6%
 - 4. 36.8%

Question ID : 264330156475

Option 1 ID : 264330613287

Option 2 ID : 264330613290

Option 3 ID : 264330613289

Option 4 ID : 264330613288

Status : Answered

Chosen Option : 3

Q.14 A और B किसी काम को 4 दिनों में कर सकते हैं। B और C उसी काम को 5 दिनों में कर सकते हैं। A और C उसी काम को 10 दिनों में कर सकते हैं। यदि A, B, C साथ मिलकर काम करते हैं, तो वे कितने दिनों में काम पूरा कर सकते हैं?

- Ans**
- 1. $3\frac{7}{11}$
 - 2. $11\frac{3}{7}$
 - 3. $3\frac{11}{7}$
 - 4. $11\frac{7}{3}$

Question ID : 264330156009

Option 1 ID : 264330611438

Option 2 ID : 264330611436

Option 3 ID : 264330611437

Option 4 ID : 264330611435

Status : Answered

Chosen Option : 1

Q.15 110 m और 85 m लंबाई की दो रेलगाड़ियां समान दिशा में क्रमशः 12 m/s और 7 m/s की चाल से चल रही हैं। तेज चाल वाली रेलगाड़ी द्वारा धीमी चाल वाली रेलगाड़ी को पार करने में लगने वाला समय (सेकंड में) ज्ञात कीजिए।

- Ans**
- 1. 19
 - 2. 35
 - 3. 39
 - 4. 29

Question ID : 264330155753

Option 1 ID : 264330610415

Option 2 ID : 264330610417

Option 3 ID : 264330610418

Option 4 ID : 264330610416

Status : Answered

Chosen Option : 1

Q.16 9.61 और 3.61 का माध्यानुपाती क्या है?

- Ans 1. 5.89
 2. 4.87
 3. 6.78
 4. 3.17

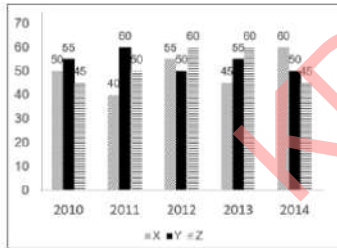
Question ID : 264330154085
Option 1 ID : 264330603805
Option 2 ID : 264330603804
Option 3 ID : 264330603806
Option 4 ID : 264330603803
Status : Answered
Chosen Option : 1

Q.17 गीता ने अपने बैंक खाते में एक निश्चित धनराशि जमा की, जो 3 वर्ष में 5% वार्षिक दर से ₹27,783 हो गई, ब्याज वार्षिक रूप से संयोजित हो रहा है। उसने कितनी धनराशि जमा की थी?

- Ans 1. ₹26,000
 2. ₹25,000
 3. ₹24,000
 4. ₹25,500

Question ID : 264330154129
Option 1 ID : 264330603979
Option 2 ID : 264330603981
Option 3 ID : 264330603982
Option 4 ID : 264330603980
Status : Answered
Chosen Option : 2

Q.18 निम्न आलेख में कुछ वर्षों में तीन अलग-अलग कंपनियों X, Y और Z द्वारा टायरों के उत्पादन (लाखों में) को दर्शाया गया है। निर्देश: निम्नलिखित आलेख का ध्यानपूर्वक अध्ययन कीजिए और नीचे दिए गए प्रश्न का उत्तर दीजिए।



सबसे अधिक औसत उत्पादन वाली कंपनी के वार्षिक औसत उत्पादन और सबसे कम औसत उत्पादन वाली कंपनी के वार्षिक औसत उत्पादन के बीच का लाख में अंतर कितना है?

- Ans 1. 8
 2. 6
 3. 2
 4. 4

Question ID : 264330153891
Option 1 ID : 264330603030
Option 2 ID : 264330603029
Option 3 ID : 264330603027
Option 4 ID : 264330603028
Status : Answered
Chosen Option : 2

Q.19 दिशा ने वार्षिक साधारण ब्याज पर 9 वर्षों के लिए ₹20,000 की राशि का निवेश किया और ₹33,500 की कुल धनराशि प्राप्त की। ब्याज की दर क्या है?

- Ans**
- 1. 9%
 - 2. 7.5%
 - 3. 8.5%
 - 4. 8%

Question ID : 264330156188

Option 1 ID : 264330612151

Option 2 ID : 264330612152

Option 3 ID : 264330612153

Option 4 ID : 264330612154

Status : Answered

Chosen Option : 2

Q.20 एक गोले का पृष्ठीय क्षेत्रफल 616 cm^2 है, इसका व्यास ज्ञात कीजिए।

($\pi = \frac{22}{7}$ का प्रयोग कीजिए)

- Ans**
- 1. 2 cm
 - 2. 14 cm
 - 3. 4 cm
 - 4. 3 cm

Question ID : 264330156369

Option 1 ID : 264330612876

Option 2 ID : 264330612875

Option 3 ID : 264330612878

Option 4 ID : 264330612877

Status : Answered

Chosen Option : 3

Section : Reasoning Ability and Problem Solving

Q.1 छः व्यक्ति, P, Q, R, S, T और U एक सीधी पंक्ति में उत्तर की ओर मुख करके बैठे हैं। U, R के दाईं ओर से चौथे स्थान पर बैठा है। R पंक्ति के अंतिम छोर पर नहीं बैठा है। U और S का निकटतम पड़ोसी T है। Q, S के बाईं ओर से तीसरे स्थान पर बैठा है। R के ठीक दाईं ओर कौन बैठा है?

- Ans**
- 1. P
 - 2. Q
 - 3. S
 - 4. T

Question ID : 264330155549

Option 1 ID : 264330609600

Option 2 ID : 264330609599

Option 3 ID : 264330609601

Option 4 ID : 264330609602

Status : Answered

Chosen Option : 3

Q.2 दी गई श्रृंखला में प्रश्न चिन्ह '?' के स्थान पर क्या आना चाहिए?

3 9 45 261 1557 ?

- Ans
- ✓ 1. 9333
 - ✗ 2. 9555
 - ✗ 3. 8572
 - ✗ 4. 9433

Question ID : 264330151451
Option 1 ID : 264330593432
Option 2 ID : 264330593434
Option 3 ID : 264330593431
Option 4 ID : 264330593433
Status : Answered
Chosen Option : 1

Q.3 एक निश्चित तर्क के अनुसार 38, 49 से संबंधित है। समान तर्क के अनुसार, 64, 75 से संबंधित है। समान तर्क का अनुसरण करते हुए 83 निम्नलिखित में से किससे संबंधित है?

- Ans
- ✗ 1. 92
 - ✗ 2. 93
 - ✗ 3. 95
 - ✓ 4. 94

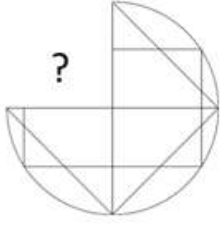
Question ID : 264330151593
Option 1 ID : 264330593999
Option 2 ID : 264330594000
Option 3 ID : 264330594002
Option 4 ID : 264330594001
Status : Answered
Chosen Option : 4

Q.4 यदि '+' और '-' को आपस में बदल दिया जाए तथा 'x' और '÷' को आपस में बदल दिया जाए तो निम्नलिखित समीकरण में (?) के स्थान पर क्या आएगा?
 $32 - 512 \times 64 \div 8 + 64 = ?$

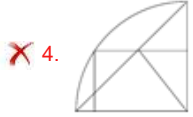
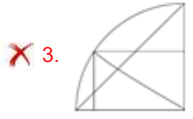
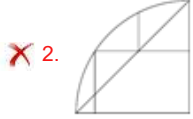
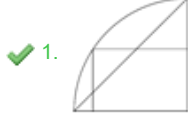
- Ans
- ✗ 1. 42
 - ✗ 2. 22
 - ✗ 3. 52
 - ✓ 4. 32

Question ID : 264330155677
Option 1 ID : 264330610113
Option 2 ID : 264330610111
Option 3 ID : 264330610114
Option 4 ID : 264330610112
Status : Answered
Chosen Option : 4

Q.5 पैटर्न को पूरा करने वाली आकृति को पहचानिए (घूर्णन की अनुमति नहीं है)।



Ans



Question ID : 264330154514

Option 1 ID : 264330605522

Option 2 ID : 264330605521

Option 3 ID : 264330605519

Option 4 ID : 264330605520

Status : Answered

Chosen Option : 1

Q.6 एक निश्चित तर्क के अनुसार 287, 398 से संबंधित है। समान तर्क के अनुसार, 378, 489 से संबंधित है। समान तर्क का अनुसरण करते हुए 852 निम्नलिखित में से किससे संबंधित है?

Ans ✗ 1. 543

✗ 2. 346

✓ 3. 963

✗ 4. 643

Question ID : 264330151602

Option 1 ID : 264330594037

Option 2 ID : 264330594038

Option 3 ID : 264330594035

Option 4 ID : 264330594036

Status : Answered

Chosen Option : 3

Q.7 यदि शब्द 'FINGER' के प्रत्येक अक्षर को अंग्रेजी वर्णमाला के क्रम में व्यवस्थित किया जाए तो कितने अक्षरों का स्थान अपरिवर्तित रहेगा?

- Ans
- 1. चार
 - 2. एक
 - 3. तीन
 - 4. दो

Question ID : 264330154326

Option 1 ID : 264330604767

Option 2 ID : 264330604770

Option 3 ID : 264330604768

Option 4 ID : 264330604769

Status : Answered

Chosen Option : 1

Q.8 नीचे दिए गए कथन/कथनों और निष्कर्षों को ध्यानपूर्वक पढ़िए। आपको मानना है कि दिए गए कथन सत्य हैं चाहे वे समान्यतः ज्ञात तथ्यों से अलग प्रतीत होते हों। आपको निश्चय करना है कि कौन-सा/कौन-से निष्कर्ष तार्किक रूप से दिए गए कथन/कथनों के अनुसार है/हैं।

कथन: सभी चॉकलेट, मिठाइयां हैं। कुछ मिठाइयां, हानिकारक हैं।

निष्कर्ष:

(I) सभी चॉकलेट, हानिकारक हैं।

(II) कुछ हानिकारक, चॉकलेट हैं।

- Ans
- 1. केवल निष्कर्ष (I) कथनों के अनुसार है।
 - 2. केवल निष्कर्ष (II) कथनों के अनुसार है।
 - 3. दोनों निष्कर्ष (I) और (II) कथनों के अनुसार हैं।
 - 4. न तो निष्कर्ष (I) और न ही (II) कथनों के अनुसार है।

Question ID : 264330154433

Option 1 ID : 264330605195

Option 2 ID : 264330605196

Option 3 ID : 264330605198

Option 4 ID : 264330605197

Status : Answered

Chosen Option : 4

Q.9 अंग्रेजी वर्णमाला क्रम के आधार पर दी गई श्रृंखला में प्रश्न चिह्न (?) के स्थान पर क्या आना चाहिए?

CNT, FQU, ITV, LWW, ?

- Ans
- 1. MXZ
 - 2. NYY
 - 3. OZX
 - 4. LYX

Question ID : 264330155786

Option 1 ID : 264330610548

Option 2 ID : 264330610549

Option 3 ID : 264330610550

Option 4 ID : 264330610547

Status : Answered

Chosen Option : 3

Q.10 उस सही विकल्प को चुनिए, जिसे दी गई श्रृंखला के रिक्त स्थानों में इसी क्रम में रखने पर श्रृंखला तार्किक रूप से पूरी हो जाएगी।

X _AL ZH L _KAL DNA _QAL

- Ans 1. EABLF
 2. EBFLA
 3. FBPSB
 4. FABLE

Question ID : 264330154726

Option 1 ID : 264330606369

Option 2 ID : 264330606367

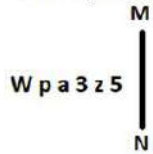
Option 3 ID : 264330606370

Option 4 ID : 264330606368

Status : Answered

Chosen Option : 1

Q.11 दी गई आकृति के उस सही दर्पण प्रतिबिंब को चुनिए, जो नीचे दर्शाए गए अनुसार दर्पण को MN पर रखने पर बनेगा।



- Ans 1. 2z3 eb M
 2. 2zεεqW
 3. z5εεsp M
 4. 5z3 εp W

Question ID : 264330151510

Option 1 ID : 264330593668

Option 2 ID : 264330593669

Option 3 ID : 264330593670

Option 4 ID : 264330593667

Status : Answered

Chosen Option : 2

Q.12 यदि 'A' का अर्थ 'म', 'B' का अर्थ 'न', 'C' का अर्थ 'प' और 'D' का अर्थ 'र' है, तो निम्नलिखित समीकरण में प्रश्न चिन्ह (?) के स्थान पर क्या आएगा?

(87 A 29) B 14 D 24 C 14 C 6 B 5 = ?

- Ans 1. 62
 2. 68
 3. 56
 4. 74

Question ID : 264330151805

Option 1 ID : 264330594849

Option 2 ID : 264330594848

Option 3 ID : 264330594847

Option 4 ID : 264330594850

Status : Answered

Chosen Option : 1

Q.13 अक्षरों के उस संयोजन को चुनिए जिसे दी गई श्रृंखला के रिक्त स्थानों में क्रमिक रूप से रखने पर श्रृंखला पूरी हो जाएगी।

P __ PO _ P _ P _ OP

- Ans 1. OPPOP
 2. OOOPP
 3. POOOP
 4. POPPO

Question ID : 264330151650

Option 1 ID : 264330594228

Option 2 ID : 264330594230

Option 3 ID : 264330594229

Option 4 ID : 264330594227

Status : Not Answered

Chosen Option : --

Q.14 दी गई श्रृंखला में प्रश्न चिन्ह '?' के स्थान पर क्या आना चाहिए?

16 65 261 1045 4181 ?

- Ans 1. 16725
 2. 16945
 3. 16892
 4. 16273

Question ID : 264330151475

Option 1 ID : 264330593528

Option 2 ID : 264330593530

Option 3 ID : 264330593529

Option 4 ID : 264330593527

Status : Answered

Chosen Option : 1

Q.15 उस शब्द-युग्म का चयन कीजिए जो नीचे दिए गए शब्दों के युग्म में व्यक्त किए गए समान संबंध का सबसे अच्छा निरूपण करता है।

(शब्दों को अर्थपूर्ण हिंदी शब्दों के रूप में माना जाना चाहिए और उन्हें शब्द में अक्षरों की संख्या/व्यंजन/स्वरों की संख्या के आधार पर एक दूसरे से संबंधित नहीं किया जाना चाहिए।)

परावर्तन : प्रकाश

- Ans 1. फ़िल्म : दृश्य
 2. भावना : संवेदना
 3. परितारिका : दृष्टि
 4. प्रतिध्वनि : ध्वनि

Question ID : 264330154638

Option 1 ID : 264330606015

Option 2 ID : 264330606017

Option 3 ID : 264330606018

Option 4 ID : 264330606016

Status : Answered

Chosen Option : 4

Q.16 एक निश्चित कूट भाषा में, 'BLUE' को '1542' लिखा जाता है और 'ABLE' को '1745' लिखा जाता है। उसी कूट भाषा में 'A' को कैसे लिखा जाएगा?

- Ans
- 1. 1
 - 2. 5
 - 3. 4
 - 4. 7

Question ID : 264330151690
Option 1 ID : 264330594387
Option 2 ID : 264330594388
Option 3 ID : 264330594389
Option 4 ID : 264330594390
Status : Answered
Chosen Option : 4

Q.17 दी गई श्रृंखला में प्रश्न चिन्ह '?' के स्थान पर क्या आना चाहिए?

9 15 33 87 ? 735 2193

- Ans
- 1. 249
 - 2. 241
 - 3. 225
 - 4. 237

Question ID : 264330151483
Option 1 ID : 264330593562
Option 2 ID : 264330593561
Option 3 ID : 264330593559
Option 4 ID : 264330593560
Status : Not Answered
Chosen Option : --

KD Job Updates

Q.19 नीचे दिए गए कथनों और निष्कर्षों को ध्यानपूर्वक पढ़िए। आपको मानना है कि दिए गए कथन सत्य हैं चाहे वे समान्यतः ज्ञात तथ्यों से अलग प्रतीत होते हों। आपको निश्चय करना है कि कौन-सा/कौन-से निष्कर्ष तार्किक रूप से दिए गए कथनों के अनुसार है/हैं।

कथन: सभी टुकड़े, कालीन हैं। कुछ कालीन, स्टील हैं। कुछ स्टील, बोतलें हैं।

निष्कर्ष I: सभी कालीन, टुकड़े हैं।

निष्कर्ष II: कुछ कालीन, बोतलें हैं।

- Ans**
- 1. केवल निष्कर्ष (II) कथनों के अनुसार है।
 - 2. दोनों निष्कर्ष (I) और (II) कथनों के अनुसार हैं।
 - 3. केवल निष्कर्ष (I) कथनों के अनुसार है।
 - 4. न तो निष्कर्ष (I) और न ही (II) कथनों के अनुसार है।

Question ID : 264330155925

Option 1 ID : 264330611104

Option 2 ID : 264330611106

Option 3 ID : 264330611103

Option 4 ID : 264330611105

Status : Not Answered

Chosen Option : --

Q.20 एक निश्चित कूट भाषा में, 'ENVY' को 'FMWX' लिखा जाता है और 'ALAS' को 'BKBR' लिखा जाता है। उस कूट भाषा में 'BODY' को कैसे लिखा जाएगा?

- Ans**
- 1. CNEX
 - 2. DNEX
 - 3. CPEY
 - 4. DNEY

Question ID : 264330155810

Option 1 ID : 264330610645

Option 2 ID : 264330610646

Option 3 ID : 264330610644

Option 4 ID : 264330610643

Status : Not Answered

Chosen Option : --

Section : General Awareness

Q.1 भीतरगांव का ईटों वाला मंदिर किस राज्य में स्थित है?

- Ans**
- 1. मध्यप्रदेश
 - 2. उत्तरप्रदेश
 - 3. झारखंड
 - 4. ओडिशा

Question ID : 264330160781

Option 1 ID : 264330630457

Option 2 ID : 264330630458

Option 3 ID : 264330630455

Option 4 ID : 264330630456

Status : Answered

Chosen Option : 2

Q.2 डेबिट कार्ड और क्रेडिट कार्ड में क्या अंतर है?

- Ans
- 1. डेबिट कार्ड का उपयोग ऑनलाइन लेनदेन के लिए किया जाता है, जबकि क्रेडिट कार्ड का उपयोग व्यक्तिगत खरीदारी के लिए किया जाता है।
 - 2. क्रेडिट कार्ड के लिए पिन की आवश्यकता होती है, जबकि डेबिट कार्ड के लिए हस्ताक्षर की आवश्यकता होती है।
 - 3. डेबिट कार्ड पर क्रेडिट कार्ड की तुलना में ब्याज दरें अधिक होती हैं।
 - 4. डेबिट कार्ड से सीधे बैंक खाते से पैसे निकाले जा सकते हैं, जबकि क्रेडिट कार्ड से एक निश्चित सीमा तक ऋण लिया जा सकता है।

Question ID : 264330157309

Option 1 ID : 264330616599

Option 2 ID : 264330616602

Option 3 ID : 264330616601

Option 4 ID : 264330616600

Status : Answered

Chosen Option : 3

Q.3 पूर्व-पश्चिम गलियारा, जो स्वर्णिम चतुर्भुज महा राजमार्ग का एक हिस्सा है, भारत के निम्नलिखित किन दो शहरों को जोड़ता है?

- Ans
- 1. सिलचर और पोराबंदर
 - 2. अहमदनगर और इंफाल
 - 3. जयपुर और गंगटोक
 - 4. गांधी नगर और सिलचर

Question ID : 264330161490

Option 1 ID : 264330633289

Option 2 ID : 264330633290

Option 3 ID : 264330633288

Option 4 ID : 264330633287

Status : Answered

Chosen Option : 1

Q.4 निम्नलिखित में से किस आंदोलन की शुरुआत बंगाल में हुई थी?

- Ans
- 1. आर्य समाज
 - 2. प्रार्थना समाज
 - 3. रामकृष्ण मिशन
 - 4. सत्यशोधक समाज

Question ID : 264330160891

Option 1 ID : 264330630895

Option 2 ID : 264330630897

Option 3 ID : 264330630896

Option 4 ID : 264330630898

Status : Answered

Chosen Option : 2

Q.5 संविधान (अनुसूचित जनजाति) आदेश (दूसरा संशोधन) विधेयक, 2022 ने नारिकोरवन (Narikoravan) और कुरीविककरण (Kurivikkaran) समुदायों को किस राज्य की अनुसूचित जनजातियों की सूची में शामिल किया है?

- Ans
- 1. छत्तीसगढ़
 - 2. तमिलनाडु
 - 3. बिहार
 - 4. ओडिशा

Question ID : 264330158333
Option 1 ID : 264330620693
Option 2 ID : 264330620694
Option 3 ID : 264330620691
Option 4 ID : 264330620692
Status : Answered
Chosen Option : 2

Q.6 निम्नलिखित में से संगीतकारों के किस समूह को 'भारत रत्न' से सम्मानित किया गया? (मई 2023 तक।)

- Ans
- 1. आशा भोंसले और किशोर कुमार
 - 2. पंडित रविशंकर और पंडित भीमसेन जोशी
 - 3. ए.आर. रहमान और हरिप्रसाद चौरसिया
 - 4. अनु मलिक और उदित नारायण

Question ID : 264330155511
Option 1 ID : 264330609450
Option 2 ID : 264330609447
Option 3 ID : 264330609448
Option 4 ID : 264330609449
Status : Not Answered
Chosen Option : --

Q.7 निम्नलिखित में से कौन-सा शब्द तैराकी (swimming) के खेल से संबंधित नहीं है?

- Ans
- 1. ब्रेस्टस्ट्रोक (Breaststroke)
 - 2. बैक स्ट्रोक (Back stroke)
 - 3. पेनाल्टी कॉर्नर (Penalty Corner)
 - 4. फ्रीस्टाइल (Freestyle)

Question ID : 264330158244
Option 1 ID : 264330620337
Option 2 ID : 264330620336
Option 3 ID : 264330620338
Option 4 ID : 264330620335
Status : Answered
Chosen Option : 3

Q.8 यक्षगान एक लोक नृत्य है जो _____ राज्य से संबंधित है।

- Ans
- 1. केरल
 - 2. हरियाणा
 - 3. राजस्थान
 - 4. कर्नाटक

Question ID : 264330159057
Option 1 ID : 264330623587
Option 2 ID : 264330623589
Option 3 ID : 264330623590
Option 4 ID : 264330623588
Status : Answered
Chosen Option : 3

Q.9 भारतीय संविधान का अनुच्छेद 149 _____ से संबंधित है।

- Ans
- 1. भारत के नियंत्रक एवं महालेखा परीक्षक के कर्तव्य एवं शक्तियां
 - 2. भारत के नियंत्रक एवं महालेखा परीक्षक की नियुक्ति के लिए आवश्यक योग्यताएं
 - 3. भारत के नियंत्रक एवं महालेखा परीक्षक की नियुक्ति
 - 4. भारत के नियंत्रक एवं महालेखा परीक्षक के कार्यालय का कार्यकाल

Question ID : 264330161287
Option 1 ID : 264330632475
Option 2 ID : 264330632477
Option 3 ID : 264330632476
Option 4 ID : 264330632478
Status : Answered
Chosen Option : 3

Q.10 निम्नलिखित में से किस राज्य में FIFA U-17 महिला विश्व कप 2022 (FIFA U-17 Women's World Cup 2022) के मैच आयोजित नहीं किए गए थे?

- Ans
- 1. गोवा
 - 2. ओडिशा
 - 3. महाराष्ट्र
 - 4. गुजरात

Question ID : 264330158223
Option 1 ID : 264330620252
Option 2 ID : 264330620254
Option 3 ID : 264330620251
Option 4 ID : 264330620253
Status : Answered
Chosen Option : 2

Q.11 नील नदी का पानी किसमे गिरता है?

- Ans
- 1. तांगानिका झील
 - 2. हिंद महासागर
 - 3. भूमध्य सागर
 - 4. विक्टोरिया झील

Question ID : 264330161329
Option 1 ID : 264330632645
Option 2 ID : 264330632643
Option 3 ID : 264330632644
Option 4 ID : 264330632646
Status : Answered
Chosen Option : 3

Q.12 सिख साहित्य के अनुसार, गुरु नानक देव की जयंती भारतीय चंद्र माह के _____ की पूर्णिमा के दिन मनाई जाती है।

- Ans
- 1. कार्तिक
 - 2. माघ
 - 3. आषाढ़
 - 4. पौष

Question ID : 264330160833
Option 1 ID : 264330630665
Option 2 ID : 264330630666
Option 3 ID : 264330630663
Option 4 ID : 264330630664
Status : Not Answered
Chosen Option : --

Q.13 निम्नलिखित में से किस संस्थान की स्थापना एम. जी. रानाडे और जी. वी. जोशी द्वारा की गई थी?

- Ans
- 1. अभिनव भारत
 - 2. पूना सार्वजनिक सभा
 - 3. द बॉम्बे प्रेसीडेंसी एसोसिएशन
 - 4. भारतीय राष्ट्रीय कांग्रेस

Question ID : 264330160883
Option 1 ID : 264330630866
Option 2 ID : 264330630864
Option 3 ID : 264330630863
Option 4 ID : 264330630865
Status : Answered
Chosen Option : 1

Q.14 पृथ्वी की पर्पटी में मौजूद सातवीं सबसे प्रचुर मात्रा में पाई जाने वाली धातु का नाम क्या है, जिसका नाम मध्ययुगीन लैटिन शब्द 'केलियम (Kalium)' से लिया गया है?

- Ans
- 1. पोटैशियम
 - 2. एल्युमिनियम
 - 3. कैल्शियम
 - 4. मैग्नीशियम

Question ID : 264330161060
Option 1 ID : 264330631572
Option 2 ID : 264330631574
Option 3 ID : 264330631573
Option 4 ID : 264330631571
Status : Answered
Chosen Option : 1

Q.15 1873 में, ब्लैक रिएक्शन तकनीक (black reaction technique) से रंगे (stained), तंत्रिका ऊतक (nerve tissue) की पहली तस्वीर किसने प्रकाशित की, जिसमें संपूर्ण तंत्रिका कोशिका का वर्णन किया गया था?

- Ans
- 1. पॉल एर्लिच (Paul Ehrlich)
 - 2. गुंटर ब्लोबेल (Gunter Blobel)
 - 3. कैमिलो गोल्जी (Camillo Golgi)
 - 4. विलियम हार्वे (William Harvey)

Question ID : 264330161088
Option 1 ID : 264330631684
Option 2 ID : 264330631686
Option 3 ID : 264330631685
Option 4 ID : 264330631683
Status : Answered
Chosen Option : 4

Q.16 अक्टूबर 2022 में, विराट कोहली T20 क्रिकेट इतिहास में कितने रन पूरे करने वाले पहले भारतीय बने?

- Ans
- 1. 5000
 - 2. 9000
 - 3. 15000
 - 4. 11000

Question ID : 264330158362
Option 1 ID : 264330620807
Option 2 ID : 264330620808
Option 3 ID : 264330620810
Option 4 ID : 264330620809
Status : Answered
Chosen Option : 2

Q.17 किस नदी को 'त्संगपो'(Tsangpo) के नाम से भी जाना जाता है ?

- Ans
- 1. गण्डक नदी
 - 2. ब्रह्मपुत्र नदी
 - 3. गंगा नदी
 - 4. कावेरी नदी

Question ID : 264330160151
Option 1 ID : 264330627946
Option 2 ID : 264330627944
Option 3 ID : 264330627943
Option 4 ID : 264330627945
Status : Answered
Chosen Option : 2

Q.18 कमलेश्वर के निम्नलिखित में से किस उपन्यास को 2003 में साहित्य अकादमी पुरस्कार से सम्मानित किया गया था?

- Ans
- 1. एक सड़क सत्तावन गलियां
 - 2. कितने पाकिस्तान
 - 3. जलती हुई नदी
 - 4. काली आंधी

Question ID : 264330161762
Option 1 ID : 264330634375
Option 2 ID : 264330634376
Option 3 ID : 264330634377
Option 4 ID : 264330634378
Status : Not Answered
Chosen Option : --

Q.19 मंदारिन (Mandarin)' भारत के किस पड़ोसी देश की आधिकारिक भाषा है?

- Ans
- 1. श्रीलंका
 - 2. अफ़ग़ानिस्तान
 - 3. भूटान
 - 4. चीन

Question ID : 264330161563
Option 1 ID : 264330633580
Option 2 ID : 264330633579
Option 3 ID : 264330633581
Option 4 ID : 264330633582
Status : Answered
Chosen Option : 1

Q.20 भारतीय संविधान के अनुच्छेद 44 का उद्देश्य क्या है?

- Ans
- 1. भारत के राज्य क्षेत्र में नागरिकों के लिए एक समान नागरिक संहिता सुनिश्चित करना (To secure for the citizen, a uniform civil code through the territory of India)
 - 2. कलात्मक या ऐतिहासिक रुचि के प्रत्येक स्मारक या स्थान की सुरक्षा करना (To protect every monument or place of artistic or historic interest)
 - 3. पर्यावरण की रक्षा और सुधार करना तथा देश के वनों और वन्यजीवों की सुरक्षा करना (To protect and improve the environment and safeguard the forests and wildlife of the country)
 - 4. राज्य की सार्वजनिक सेवाओं में न्यायपालिका को कार्यपालिका से अलग करना (To separate judiciary from the executive in the public services of the State)

Question ID : 264330162253
Option 1 ID : 264330636339
Option 2 ID : 264330636341
Option 3 ID : 264330636340
Option 4 ID : 264330636342
Status : Answered
Chosen Option : 1

Q.21 15 अगस्त 1947 को, भारत के पहले प्रधान मंत्री जवाहरलाल नेहरू ने दिल्ली में लाल किले के _____ के ऊपर भारतीय राष्ट्रीय ध्वज फहराया।

- Ans
- 1. कश्मीरी गेट
 - 2. अजमेरी गेट
 - 3. दिल्ली गेट
 - 4. लाहौरी गेट

Question ID : 264330161347
Option 1 ID : 264330632715
Option 2 ID : 264330632718
Option 3 ID : 264330632717
Option 4 ID : 264330632716
Status : Answered
Chosen Option : 2

Q.22 देश के भीतर किसी अर्थव्यवस्था में वस्तुओं और सेवाओं के कुल उत्पादन साथ ही किसी विशिष्ट अवधि के दौरान मूल्यहास को मापने के लिए निम्नलिखित में से किसका उपयोग किया जाता है?

- Ans
- 1. सकल राष्ट्रीय उत्पाद (GNP)
 - 2. निवल घरेलू उत्पाद (NDP)
 - 3. सकल घरेलू उत्पाद (GDP)
 - 4. निवल राष्ट्रीय उत्पाद (NNP)

Question ID : 264330157311
Option 1 ID : 264330616608
Option 2 ID : 264330616610
Option 3 ID : 264330616607
Option 4 ID : 264330616609
Status : Answered
Chosen Option : 3

Q.23 रोशन कुमारी, शोवना नारायण, माया राव और कुमुदिनी लाखिया प्रख्यात _____ कलाकार हैं।

- Ans
- 1. कथक
 - 2. मणिपुरी
 - 3. कुचिपुड़ी
 - 4. ओडिसी

Question ID : 264330160812
Option 1 ID : 264330630579
Option 2 ID : 264330630582
Option 3 ID : 264330630581
Option 4 ID : 264330630580
Status : Answered
Chosen Option : 4

Q.24 निम्नलिखित में से कौन 'क्रैकिंग द कोड: माई जर्नी इन बॉलीवुड ('Cracking The Code: My Journey in Bollywood') पुस्तक के सह-लेखकों में से एक है?

- Ans
- 1. राजकुमार राव
 - 2. नवाजुद्दीन सिद्दीकी
 - 3. हर्षवर्द्धन कपूर
 - 4. आयुष्मान खुराना

Question ID : 264330161906
Option 1 ID : 264330634952
Option 2 ID : 264330634951
Option 3 ID : 264330634954
Option 4 ID : 264330634953
Status : Answered
Chosen Option : 2

Q.25 रानी मछैया (Rani Machaiah) एक _____ लोक नर्तकी हैं जिन्हें 2023 में पद्म श्री से सम्मानित किया गया था।

- Ans
- 1. लम्बाडी
 - 2. उम्मत्त आट
 - 3. डिम्सा
 - 4. गुस्साड़ी

Question ID : 264330155487
Option 1 ID : 264330609354
Option 2 ID : 264330609352
Option 3 ID : 264330609353
Option 4 ID : 264330609351
Status : Answered
Chosen Option : 1

Section : English Language and Comprehension

Q.1 The following sentence has been split into four segments. Identify the segment that contains a grammatical error.
Throughout my career as a journalist, / I covered many important stories and / interviewed numerous individuals, which allow me / to share important information and insights with my readers.

- Ans
- 1. I covered many important stories and
 - 2. to share important information and insights with my readers
 - 3. Throughout my career as a journalist,
 - 4. interviewed numerous individuals, which allow me

Question ID : 264330144182
Option 1 ID : 264330564992
Option 2 ID : 264330564994
Option 3 ID : 264330564991
Option 4 ID : 264330564993
Status : Answered
Chosen Option : 2

Q.2 Select the most appropriate synonym of the bracketed word in the following sentence to fill in the blank.
The athlete's perseverance and mental toughness _____(facilitate) her to overcome adversity and achieve her goals.

- Ans
- 1. restricted
 - 2. hindered
 - 3. enabled
 - 4. limited

Question ID : 264330152653
Option 1 ID : 264330598216
Option 2 ID : 264330598217
Option 3 ID : 264330598218
Option 4 ID : 264330598215
Status : Answered
Chosen Option : 1

Q.3 Select the most appropriate meaning of the given idiom.
Let sleeping dogs lie

- Ans
- 1. To care for the pet
 - 2. To fall sick intentionally
 - 3. To let somebody sleep
 - 4. Leave an existing situation as it is

Question ID : 264330156172
Option 1 ID : 264330612087
Option 2 ID : 264330612089
Option 3 ID : 264330612088
Option 4 ID : 264330612090
Status : Answered
Chosen Option : 4

Q.4 Select the most appropriate option that can substitute the underlined segment in the given sentence.
Professor said that I will be late for the lecture.

- Ans
- 1. he shall be late for the lecture
 - 2. he may be late for the lecture
 - 3. he is late for the lecture
 - 4. he would be late for the lecture

Question ID : 264330152712
Option 1 ID : 264330598448
Option 2 ID : 264330598450
Option 3 ID : 264330598449
Option 4 ID : 264330598447
Status : Answered
Chosen Option : 4

Q.5 Select the most appropriate meaning of the given idiom.

Call the shots

- Ans**
- 1. To be a follower that makes less important decision
 - 2. To be in a powerless position that follows orders
 - 3. To be in a position to make decisions that influences a situation
 - 4. To be in a neutral position

Question ID : 264330153073
Option 1 ID : 264330599857
Option 2 ID : 264330599858
Option 3 ID : 264330599856
Option 4 ID : 264330599855
Status : Answered
Chosen Option : 3

Q.6 Select the most appropriate option that can substitute the underlined segment in the following sentence.

Selling, purchasing, and using an illegally copied product is a criminal offence.

- Ans**
- 1. a pirated
 - 2. an obsolete
 - 3. a crooked
 - 4. an outlawed

Question ID : 264330152633
Option 1 ID : 264330598136
Option 2 ID : 264330598135
Option 3 ID : 264330598138
Option 4 ID : 264330598137
Status : Answered
Chosen Option : 4

Q.7 Select the INCORRECTLY spelt word.

- Ans**
- 1. Embarass
 - 2. Definitely
 - 3. Accommodate
 - 4. Separate

Question ID : 264330152644
Option 1 ID : 264330598181
Option 2 ID : 264330598180
Option 3 ID : 264330598179
Option 4 ID : 264330598182
Status : Answered
Chosen Option : 3

Q.8 The following sentence has been split into four segments. Identify the segment that contains a grammatical error.
Harish says / that his sister / loves to play / harmonium.

- Ans
- 1. loves to play
 - 2. harmonium
 - 3. Harish says
 - 4. that his sister

Question ID : 264330153165
Option 1 ID : 264330600221
Option 2 ID : 264330600222
Option 3 ID : 264330600219
Option 4 ID : 264330600220
Status : Answered
Chosen Option : 1

Q.9 Select the option that can be used as a one-word substitute for the given group of words.
A cage made for birds.
OR
A place for keeping the birds in a confined space.

- Ans
- 1. Aquarium
 - 2. Aviary
 - 3. Arena
 - 4. Apiary

Question ID : 264330153553
Option 1 ID : 264330601713
Option 2 ID : 264330601714
Option 3 ID : 264330601712
Option 4 ID : 264330601711
Status : Answered
Chosen Option : 4

Q.10 Select the most appropriate synonym of the given word.
Repulsive

- Ans
- 1. Reliable
 - 2. Disgusting
 - 3. Attractive
 - 4. Uniform

Question ID : 264330151922
Option 1 ID : 264330595305
Option 2 ID : 264330595304
Option 3 ID : 264330595303
Option 4 ID : 264330595306
Status : Answered
Chosen Option : 1

Q.11 Select the most appropriate option that can substitute the underlined segment in the given sentence.

Andrew will playing basketball at the college tournament.

- Ans
- 1. are play
 - 2. is playing
 - 3. is played
 - 4. are play the

Question ID : 264330153473
Option 1 ID : 264330601407
Option 2 ID : 264330601409
Option 3 ID : 264330601410
Option 4 ID : 264330601408
Status : Answered
Chosen Option : 2

Q.12 Select the sentence that has NO spelling errors.

- Ans
- 1. The doctor presribed some medicine to alleviate my parsistent cough, which has been boathering me for days.
 - 2. The doctor precribed some medicine to aleviate my persistent cough, which has been bothering me for days.
 - 3. The doctor prescribed some medicine to alleviate my persistent cough, which has been bothering me for days.
 - 4. The doctor prescribed some medicine to aleviate my parsistent cough, which has been boathering me for days.

Question ID : 264330152649
Option 1 ID : 264330598201
Option 2 ID : 264330598200
Option 3 ID : 264330598199
Option 4 ID : 264330598202
Status : Not Answered
Chosen Option : --

Q.13 Select the most appropriate ANTONYM of the given word.
Feud

- Ans
- 1. Harmony
 - 2. Gross
 - 3. Peril
 - 4. Vigour

Question ID : 264330152677
Option 1 ID : 264330598313
Option 2 ID : 264330598312
Option 3 ID : 264330598314
Option 4 ID : 264330598311
Status : Answered
Chosen Option : 2

Q.14 Select the most appropriate meaning of the given idiom.
Sell like hot cakes

- Ans**
- 1. Selling cakes
 - 2. Eating hot cake
 - 3. Being ignored
 - 4. Quick sell out

Question ID : 264330152725
Option 1 ID : 264330598501
Option 2 ID : 264330598502
Option 3 ID : 264330598499
Option 4 ID : 264330598500
Status : Answered
Chosen Option : 3

Q.15 The given sentence contains an error. Select the option that correctly rectifies the error.

The boy told his mother that he saw the most tall giraffe at the zoo.

- Ans**
- 1. The boy told his mother that he saw the most taller giraffe at the zoo.
 - 2. The boy told his mother that he saw the tallest giraffe at the zoo.
 - 3. The boy told his mother that he saw the more taller giraffe at the zoo.
 - 4. The boy told his mother that he saw the most tallest giraffe at the zoo.

Question ID : 264330152606
Option 1 ID : 264330598028
Option 2 ID : 264330598030
Option 3 ID : 264330598027
Option 4 ID : 264330598029
Status : Answered
Chosen Option : 2

Q.16 Select the option that rectifies the spelling of the underlined word in the given sentence.

The sergent brought in a lot of changes as soon as he was given charge.

- Ans**
- 1. sergeant
 - 2. sergeannt
 - 3. seargeant
 - 4. sergant

Question ID : 264330153156
Option 1 ID : 264330600186
Option 2 ID : 264330600184
Option 3 ID : 264330600185
Option 4 ID : 264330600183
Status : Answered
Chosen Option : 4

Q.17 Select the most appropriate option to fill in the blank.
The hiring manager has already offered you the job; now, _____ to accept or decline the offer.

- Ans
- 1. a penny for your thoughts
 - 2. get your act together
 - 3. the ball is in your court
 - 4. pull your leg

Question ID : 264330151891
Option 1 ID : 264330595184
Option 2 ID : 264330595186
Option 3 ID : 264330595183
Option 4 ID : 264330595185
Status : Answered
Chosen Option : 3

Q.18 Select the most appropriate word to fill in the blank.
Hardik Pandya hit four _____ fours and scored 72 runs in the match.

- Ans
- 1. constant
 - 2. consecutive
 - 3. ongoing
 - 4. continuous

Question ID : 264330153507
Option 1 ID : 264330601541
Option 2 ID : 264330601539
Option 3 ID : 264330601542
Option 4 ID : 264330601540
Status : Answered
Chosen Option : 4

Q.19 Parts of the following sentence have been given as options. Select the option that contains an error.

All these things happen/ because she do not / pay heed to my words.

- Ans
- 1. because she do not
 - 2. pay heed to my words
 - 3. All these things happen
 - 4. No error

Question ID : 264330155379
Option 1 ID : 264330608932
Option 2 ID : 264330608933
Option 3 ID : 264330608931
Option 4 ID : 264330608934
Status : Answered
Chosen Option : 1

Q.20 Select the most appropriate option to fill in the blank.
Oberon doesn't like the way Demetrius _____ to Helena. (Credit: A Midsummer Night's Dream)

- Ans
- 1. talking
 - 2. to talk
 - 3. talks
 - 4. talked

Question ID : 264330153511
Option 1 ID : 264330601557
Option 2 ID : 264330601558
Option 3 ID : 264330601556
Option 4 ID : 264330601555
Status : Answered
Chosen Option : 3

Comprehension:

In the following passage, some words have been deleted. Fill in the blanks with the help of the alternatives given. Select the most appropriate option for each blank.
That evening we sat in the courtyard of the hotel once more, (1) _____ the sun sink below the western isles. I told Alexi what had happened that day. I (2) _____ I could glimpse the grey stone wall of Lismore House (3) _____ its island hilltop, the red light of the setting sun glinting from the windows, and from there the wasted frame of Jonathan Blake gazing out across the sea, on nothing, his boy waiting for him to die. But it was my (4) _____, simply the image on my mind, like the image burned on to your eyes when you have (5) _____ too long at the sun, the passing footprint of a creature long gone.

SubQuestion No : 21

Q.21 Select the most appropriate option to fill in blank no. 1.

- Ans
- 1. practising
 - 2. risking
 - 3. wallowing
 - 4. watching

Question ID : 264330153445
Option 1 ID : 264330601300
Option 2 ID : 264330601301
Option 3 ID : 264330601302
Option 4 ID : 264330601299
Status : Answered
Chosen Option : 4

Comprehension:

In the following passage, some words have been deleted. Fill in the blanks with the help of the alternatives given. Select the most appropriate option for each blank.
That evening we sat in the courtyard of the hotel once more, (1) _____ the sun sink below the western isles. I told Alexi what had happened that day. I (2) _____ I could glimpse the grey stone wall of Lismore House (3) _____ its island hilltop, the red light of the setting sun glinting from the windows, and from there the wasted frame of Jonathan Blake gazing out across the sea, on nothing, his boy waiting for him to die. But it was my (4) _____, simply the image on my mind, like the image burned on to your eyes when you have (5) _____ too long at the sun, the passing footprint of a creature long gone.

SubQuestion No : 22

Q.22 Select the most appropriate option to fill in blank no. 2.

- Ans 1. translated
 2. groped
 3. imbibed
 4. fancied

Question ID : 264330153446

Option 1 ID : 264330601304

Option 2 ID : 264330601306

Option 3 ID : 264330601303

Option 4 ID : 264330601305

Status : Answered

Chosen Option : 2

Comprehension:

In the following passage, some words have been deleted. Fill in the blanks with the help of the alternatives given. Select the most appropriate option for each blank.
That evening we sat in the courtyard of the hotel once more, (1) _____ the sun sink below the western isles. I told Alexi what had happened that day. I (2) _____ I could glimpse the grey stone wall of Lismore House (3) _____ its island hilltop, the red light of the setting sun glinting from the windows, and from there the wasted frame of Jonathan Blake gazing out across the sea, on nothing, his boy waiting for him to die. But it was my (4) _____, simply the image on my mind, like the image burned on to your eyes when you have (5) _____ too long at the sun, the passing footprint of a creature long gone.

SubQuestion No : 23

Q.23 Select the most appropriate option to fill in blank no. 3.

- Ans 1. on
 2. off
 3. for
 4. aside

Question ID : 264330153447

Option 1 ID : 264330601308

Option 2 ID : 264330601307

Option 3 ID : 264330601310

Option 4 ID : 264330601309

Status : Answered

Chosen Option : 1

Comprehension:

In the following passage, some words have been deleted. Fill in the blanks with the help of the alternatives given. Select the most appropriate option for each blank.
That evening we sat in the courtyard of the hotel once more, (1) _____ the sun sink below the western isles. I told Alexi what had happened that day. I (2) _____ I could glimpse the grey stone wall of Lismore House (3) _____ its island hilltop, the red light of the setting sun glinting from the windows, and from there the wasted frame of Jonathan Blake gazing out across the sea, on nothing, his boy waiting for him to die. But it was my (4) _____, simply the image on my mind, like the image burned on to your eyes when you have (5) _____ too long at the sun, the passing footprint of a creature long gone.

SubQuestion No : 24

Q.24 Select the most appropriate option to fill in blank no. 4.

- Ans 1. habitat
 2. dribble
 3. fantasy
 4. straw

Question ID : 264330153448

Option 1 ID : 264330601314

Option 2 ID : 264330601312

Option 3 ID : 264330601313

Option 4 ID : 264330601311

Status : Not Answered

Chosen Option : --

Comprehension:

In the following passage, some words have been deleted. Fill in the blanks with the help of the alternatives given. Select the most appropriate option for each blank.
That evening we sat in the courtyard of the hotel once more, (1) _____ the sun sink below the western isles. I told Alexi what had happened that day. I (2) _____ I could glimpse the grey stone wall of Lismore House (3) _____ its island hilltop, the red light of the setting sun glinting from the windows, and from there the wasted frame of Jonathan Blake gazing out across the sea, on nothing, his boy waiting for him to die. But it was my (4) _____, simply the image on my mind, like the image burned on to your eyes when you have (5) _____ too long at the sun, the passing footprint of a creature long gone.

SubQuestion No : 25

Q.25 Select the most appropriate option to fill in blank no. 5.

- Ans 1. resumed
 2. stared
 3. blocked
 4. rusted

Question ID : 264330153449

Option 1 ID : 264330601317

Option 2 ID : 264330601318

Option 3 ID : 264330601316

Option 4 ID : 264330601315

Status : Answered

Chosen Option : 1

Multi Tasking Non Technical Staff and Havaladar CBIC and CBN Examination 2023

Roll Number	KD Job Updates
Candidate Name	KD Job Updates
Venue Name	TCS Gito Bitan
Exam Date	01/09/2023
Exam Time	12:30 PM - 2:30 PM
Subject	MTS Non Tech Havaladar CBIC and CBN Examination 2023

Section : Numerical and Mathematical Ability

Q.1 निम्नलिखित को सरल कीजिए।
 $(16\frac{2}{5} - 12\frac{1}{15}) \div 3\frac{4}{81} = ?$

- Ans
- ✓ 1. $1\frac{8}{19}$
 - ✗ 2. $1\frac{9}{19}$
 - ✗ 3. $1\frac{9}{13}$
 - ✗ 4. $2\frac{8}{13}$

Question ID : 264330156334
Option 1 ID : 264330612737
Option 2 ID : 264330612735
Option 3 ID : 264330612738
Option 4 ID : 264330612736
Status : Answered
Chosen Option : 4

Q.2 एक पुलिसकर्मी एक चोर का पीछा करता है जो उससे 630 मीटर दूर है। यदि वे क्रमशः 9.5 किलोमीटर प्रति घंटे और 6.5 किलोमीटर प्रति घंटे की चाल से दौड़ते हैं, तो पुलिसकर्मी द्वारा पकड़े जाने से पहले चोर कितनी दूरी (किलोमीटर में, दशमलव के स्थान 1 तक सन्निकटित) तय करता है?

- Ans
- ✗ 1. 1.2
 - ✗ 2. 1.8
 - ✗ 3. 2.0
 - ✓ 4. 1.4

Question ID : 264330156309
Option 1 ID : 264330612637
Option 2 ID : 264330612636
Option 3 ID : 264330612635
Option 4 ID : 264330612638
Status : Answered
Chosen Option : 1

Q.3 A किसी काम को 36 दिनों में कर सकता है, जबकि B इसे 48 दिनों में कर सकता है। B ने इस पर 12 दिनों तक काम करने के बाद काम छोड़ दिया। शेष काम को पूरा करने में A को कितने दिन लगेंगे?

- Ans**
- 1. 21
 - 2. 27
 - 3. 28
 - 4. 32

Question ID : 264330154095
Option 1 ID : 264330603845
Option 2 ID : 264330603846
Option 3 ID : 264330603844
Option 4 ID : 264330603843
Status : Answered
Chosen Option : 2

Q.4 समृद्धि ने 26% की हानि पर एक सोने की अंगूठी बेची। यदि सोने की अंगूठी का क्रय मूल्य ₹38,500 है, तो सोने की अंगूठी का विक्रय मूल्य क्या है?

- Ans**
- 1. ₹29,590
 - 2. ₹30,500
 - 3. ₹28,490
 - 4. ₹38,600

Question ID : 264330156181
Option 1 ID : 264330612126
Option 2 ID : 264330612123
Option 3 ID : 264330612125
Option 4 ID : 264330612124
Status : Answered
Chosen Option : 3

Q.5 108 km/h की चाल से चल रही एक 360 m लंबी रेलगाड़ी, 90 km/h की चाल से विपरीत दिशा में चल रही एक दूसरी रेलगाड़ी को 12 सेकंड में पार करती है। दूसरी रेलगाड़ी की लंबाई (m में) क्या है?

- Ans**
- 1. 330
 - 2. 300
 - 3. 345
 - 4. 270

Question ID : 264330156491
Option 1 ID : 264330613351
Option 2 ID : 264330613354
Option 3 ID : 264330613353
Option 4 ID : 264330613352
Status : Answered
Chosen Option : 2

Q.6 P और Q एक-दूसरे के व्युत्क्रमानुपाती हैं और जब Q बराबर 6 है तो P बराबर 10 है। जब P बराबर 15 है तो Q का मान क्या होगा?

- Ans
- 1. 10
 - 2. 4
 - 3. 5
 - 4. 9

Question ID : 264330154125
Option 1 ID : 264330603966
Option 2 ID : 264330603964
Option 3 ID : 264330603965
Option 4 ID : 264330603963
Status : Answered
Chosen Option : 1

Q.7 दूध और पानी का 25 लीटर का एक मिश्रण है, जिसमें दूध और पानी का अनुपात 3 : 2 है। मिश्रण में कितने लीटर पानी मिलाया जाए ताकि परिणामी मिश्रण में 50% पानी हो?

- Ans
- 1. 8
 - 2. 5
 - 3. 10
 - 4. 12

Question ID : 264330155990
Option 1 ID : 264330611360
Option 2 ID : 264330611361
Option 3 ID : 264330611362
Option 4 ID : 264330611359
Status : Answered
Chosen Option : 3

Q.8 यदि $(x - 2)$, $(2x^2 + 12kx - 25k)$ का गुणनखंड है, तो k का मान क्या है?

- Ans
- 1. 4
 - 2. 2
 - 3. 8
 - 4. 6

Question ID : 264330156203
Option 1 ID : 264330612212
Option 2 ID : 264330612211
Option 3 ID : 264330612214
Option 4 ID : 264330612213
Status : Answered
Chosen Option : 1

Q.9 शोभा ने एक आवासीय क्षेत्र में ₹6,00,000 में एक छोटा प्लॉट खरीदा और उसे लक्षिता को 20% के लाभ पर बेच दिया। लक्षिता ने बदले में इसे 10% की हानि पर दिनेश को बेच दिया। प्लॉट के लिए दिनेश ने कितना भुगतान किया?

- Ans**
- 1. ₹6,40,000
 - 2. ₹6,08,000
 - 3. ₹6,48,000
 - 4. ₹6,00,000

Question ID : 264330154122

Option 1 ID : 264330603952

Option 2 ID : 264330603953

Option 3 ID : 264330603951

Option 4 ID : 264330603954

Status : Answered

Chosen Option : 3

Q.10 एक पंखे के मूल्य में पहले 28% की कमी की जाती है और फिर 35% की वृद्धि की जाती है। यदि परिणामी मूल्य ₹1,215 है, तो पंखे का मूल मूल्य ज्ञात कीजिए।

- Ans**
- 1. ₹1,052
 - 2. ₹1,250
 - 3. ₹2,150
 - 4. ₹1,520

Question ID : 264330156555

Option 1 ID : 264330613607

Option 2 ID : 264330613608

Option 3 ID : 264330613610

Option 4 ID : 264330613609

Status : Marked For Review

Chosen Option : 1

Q.11 2×4×1 इकाई के आयामों वाले एक घनाभ को पिघलाकर एक नया घन बनाया जाता है। इस नए घन का कुल पृष्ठीय क्षेत्रफल वर्ग इकाई में क्या है।

- Ans**
- 1. 32
 - 2. 16
 - 3. 24
 - 4. 28

Question ID : 264330153827

Option 1 ID : 264330602772

Option 2 ID : 264330602774

Option 3 ID : 264330602773

Option 4 ID : 264330602771

Status : Answered

Chosen Option : 3

Q.12 साधारण ब्याज पर जमा की गई एक धनराशि तीन वर्षों में ₹1,020 और दो वर्षों में ₹980 हो जाती है। जमा की गई धनराशि कितनी है?

- Ans 1. ₹900
 2. ₹920
 3. ₹880
 4. ₹840

Question ID : 264330158840
Option 1 ID : 264330622721
Option 2 ID : 264330622722
Option 3 ID : 264330622720
Option 4 ID : 264330622719
Status : Answered
Chosen Option : 1

Q.13 एक विषय में 13 विद्यार्थियों के औसत अंक 66 हैं। यदि पहले सात विद्यार्थियों का औसत 67 है और अंतिम सात विद्यार्थियों का औसत 69 है, तो सातवें विद्यार्थी के अंक कितने हैं?

- Ans 1. 99
 2. 91
 3. 94
 4. 97

Question ID : 264330154076
Option 1 ID : 264330603770
Option 2 ID : 264330603767
Option 3 ID : 264330603768
Option 4 ID : 264330603769
Status : Answered
Chosen Option : 3

Q.14 राम एक काम को 18 घंटे में पूरा कर सकता है। श्याम और नरेश उसी काम को 9 घंटे में पूरा कर सकते हैं। राम और नरेश इसे 12 घंटे में कर सकते हैं। श्याम को अकेले इस काम को पूरा करने में कितना समय लगेगा?

- Ans 1. 11 घंटे
 2. 12 घंटे
 3. 9 घंटे
 4. 15 घंटे

Question ID : 264330156566
Option 1 ID : 264330613652
Option 2 ID : 264330613653
Option 3 ID : 264330613651
Option 4 ID : 264330613654
Status : Answered
Chosen Option : 2

Q.15 एक समलंब आकार के खेत का क्षेत्रफल 1720 m^2 है, इसकी समानांतर भुजाओं के बीच की दूरी 40 m है और समानांतर भुजाओं में से एक की लंबाई 48 m है। दूसरी समानांतर भुजा की लंबाई (m में) क्या है?

- Ans
- 1. 56
 - 2. 42
 - 3. 38
 - 4. 34

Question ID : 264330153788

Option 1 ID : 264330602615

Option 2 ID : 264330602617

Option 3 ID : 264330602616

Option 4 ID : 264330602618

Status : Answered

Chosen Option : 1

Q.16 एक धनराशि वार्षिक रूप से संयोजित चक्रवृद्धि ब्याज पर 3 वर्ष में ₹6,400 और 5 वर्ष में ₹8,100 हो जाती है। वार्षिक ब्याज दर ज्ञात कीजिए।

- Ans
- 1. $12\frac{6}{8}\%$
 - 2. $12\frac{5}{8}\%$
 - 3. $12\frac{3}{8}\%$
 - 4. $12\frac{4}{8}\%$

Question ID : 264330156228

Option 1 ID : 264330612314

Option 2 ID : 264330612313

Option 3 ID : 264330612311

Option 4 ID : 264330612312

Status : Answered

Chosen Option : 3

Q.17 $(a + b)^2 \times (a^3 - b^3)$, $(a^3 + b^3)$, $(a^2 - b^2)$ का चतुर्थ समानुपाती ज्ञात कीजिए।

- Ans
- 1. $\frac{(a^2 + ab + b^2)}{(a^2 - b^2)}$
 - 2. $\frac{(a^2 - ab + b^2)}{(a^2 + ab + b^2)}$
 - 3. $\frac{(a^2 - ab + b^2)}{(a + b)}$
 - 4. $\frac{(a^2 + ab + b^2)}{(a - b)}$

Question ID : 264330153846

Option 1 ID : 264330602847

Option 2 ID : 264330602850

Option 3 ID : 264330602849

Option 4 ID : 264330602848

Status : Answered

Chosen Option : 2

Q.18 एक छात्र को संस्कृत, अंग्रेजी, गणित, सामाजिक और कंप्यूटर विज्ञान में क्रमशः 62, 58, 72, 58 और 83 अंक प्राप्त होते हैं। गणित, सामाजिक और कंप्यूटर विज्ञान में उसके औसत अंक संस्कृत, अंग्रेजी और गणित के औसत अंको से _____ अधिक है।

- Ans
- 1. 8
 - 2. 6
 - 3. 7
 - 4. 9

Question ID : 264330156251

Option 1 ID : 264330612405

Option 2 ID : 264330612403

Option 3 ID : 264330612404

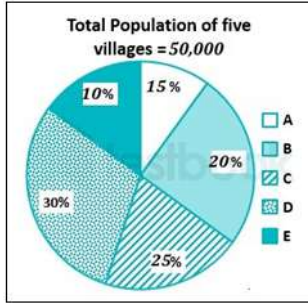
Option 4 ID : 264330612406

Status : Answered

Chosen Option : 2

Q.19 दिए गए वृत्त-आलेख का अध्ययन कीजिए और दिए गए प्रश्न का उत्तर दीजिए।

वृत्त-आलेख में एक वर्ष में पांच गांवों में जनसंख्या के प्रतिशत को दर्शाया गया है।



संदर्भ: Total population of five villages = 50,000 - पांच गांवों की कुल जनसंख्या = 50,000

गांव B और D में जनसंख्या का अनुपात ज्ञात कीजिए।

- Ans
- 1. 3 : 1
 - 2. 3 : 2
 - 3. 1 : 3
 - 4. 2 : 3

Question ID : 264330156243

Option 1 ID : 264330612373

Option 2 ID : 264330612374

Option 3 ID : 264330612371

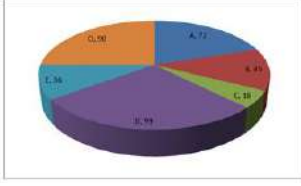
Option 4 ID : 264330612372

Status : Answered

Chosen Option : 4

Q.20 निम्नलिखित वृत्त आलेख में वर्ष 2015 के दौरान भारत से अलग-अलग प्रकार के कपड़ों के निर्यात (डिग्री माप में) को दर्शाया गया है।

यदि एक टन कपड़े A से प्राप्त आय, कपड़े C से प्राप्त आय की तीन गुना है, तो A और C से आय के बीच का अनुपात कितना है?



- Ans**
- 1. 6 : 1
 - 2. 1 : 3
 - 3. 3 : 1
 - 4. 12 : 1

Question ID : 264330154066

Option 1 ID : 264330603729

Option 2 ID : 264330603730

Option 3 ID : 264330603727

Option 4 ID : 264330603728

Status : Answered

Chosen Option : 3

Section : Reasoning Ability and Problem Solving

Q.1 निम्नलिखित संख्या-युग्मों में, पहली संख्या पर कुछ गणितीय संक्रियाएँ करके दूसरी संख्या प्राप्त की जाती है। उस समुच्चय को चुनिए जिसमें संख्याएँ ठीक उसी प्रकार संबंधित हैं जिस प्रकार निम्नलिखित समुच्चयों की संख्याएँ संबंधित हैं।

(ध्यान दें: संख्याओं को उनके घटक अंकों में अलग-अलग किए बिना, पूर्ण संख्याओं पर संक्रियाएँ की जानी चाहिए। उदा. 13 - संख्या 13 पर संक्रियाएँ जैसे 13 को जोड़ना/घटाना/गुणा करना आदि किया जा सकता है। 13 को 1 और 3 में अलग-अलग करने की ओर फिर 1 और 3 पर गणितीय संक्रियाएँ करने की अनुमति नहीं है।)

5, 24

12, 143

- Ans**
- 1. 14, 195
 - 2. 27, 345
 - 3. 18, 652
 - 4. 21, 126

Question ID : 264330151623

Option 1 ID : 264330594119

Option 2 ID : 264330594120

Option 3 ID : 264330594122

Option 4 ID : 264330594121

Status : Answered

Chosen Option : 1

Q.2 एक निश्चित कूट भाषा में, 'BATH' को '1482' लिखा जाता है और 'HALT' को '8126' लिखा जाता है। उसी कूट भाषा में 'L' को कैसे लिखा जाएगा?

- Ans**
- ✓ 1. 6
 - ✗ 2. 1
 - ✗ 3. 8
 - ✗ 4. 2

Question ID : 264330151712
Option 1 ID : 264330594476
Option 2 ID : 264330594477
Option 3 ID : 264330594478
Option 4 ID : 264330594475
Status : Answered
Chosen Option : 4

Q.3 यदि 2 अक्टूबर 2003 को गुरुवार है, तो 15 जुलाई 2010 को सप्ताह का कौन-सा दिन होगा?

- Ans**
- ✗ 1. शुक्रवार
 - ✗ 2. मंगलवार
 - ✗ 3. सोमवार
 - ✓ 4. गुरुवार

Question ID : 264330154334
Option 1 ID : 264330604800
Option 2 ID : 264330604799
Option 3 ID : 264330604801
Option 4 ID : 264330604802
Status : Answered
Chosen Option : 3

Q.4 एक निश्चित तर्क के अनुसार 284, 142 से संबंधित है। समान तर्क के अनुसार, 612, 306 से संबंधित है। समान तर्क का अनुसरण करते हुए 522 निम्नलिखित में से किससे संबंधित है?

- Ans**
- ✗ 1. 262
 - ✓ 2. 261
 - ✗ 3. 264
 - ✗ 4. 263

Question ID : 264330151583
Option 1 ID : 264330593960
Option 2 ID : 264330593959
Option 3 ID : 264330593962
Option 4 ID : 264330593961
Status : Answered
Chosen Option : 3

Q.5 दी गई श्रृंखला में प्रश्न चिन्ह '?' के स्थान पर क्या आना चाहिए?

25 39 67 123 235 ?

- Ans
- 1. 378
 - 2. 291
 - 3. 459
 - 4. 434

Question ID : 264330151450

Option 1 ID : 264330593427

Option 2 ID : 264330593428

Option 3 ID : 264330593430

Option 4 ID : 264330593429

Status : Answered

Chosen Option : 3

Q.6 F, G, H, I, J, K, L और M एक वर्गाकार मेज के चारों ओर केंद्र की ओर मुख करके बैठे हैं। उनमें से कुछ मेज के कोनों पर बैठे हैं जबकि कुछ भुजाओं के ठीक मध्य में बैठे हैं। G, I, H और J किसी भी कोने पर नहीं बैठे हैं। G, K के ठीक बाईं ओर तथा L के ठीक दाईं ओर बैठा है। I, K के ठीक दाईं ओर बैठा है। F, I के ठीक दाईं ओर तथा H के ठीक बाईं ओर बैठा है। J, M के ठीक दाईं ओर तथा L के ठीक बाईं ओर बैठा है। M के ठीक बाईं ओर कौन बैठा है?

- Ans
- 1. H
 - 2. G
 - 3. I
 - 4. J

Question ID : 264330155872

Option 1 ID : 264330610892

Option 2 ID : 264330610893

Option 3 ID : 264330610891

Option 4 ID : 264330610894

Status : Answered

Chosen Option : 4

Q.7 दी गई श्रृंखला में प्रश्न चिन्ह '?' के स्थान पर क्या आना चाहिए?

5 11 29 ? 245 731 2189

- Ans
- 1. 85
 - 2. 79
 - 3. 97
 - 4. 83

Question ID : 264330151491

Option 1 ID : 264330593593

Option 2 ID : 264330593591

Option 3 ID : 264330593594

Option 4 ID : 264330593592

Status : Answered

Chosen Option : 2

Q.8 नीचे दिए गए कथनों और निष्कर्षों को ध्यानपूर्वक पढ़िए। आपको मानना है कि दिए गए कथन सत्य हैं चाहे वे समान्यतः ज्ञात तथ्यों से अलग प्रतीत होते हों। आपको निश्चय करना है कि कौन-सा/कौन-से निष्कर्ष तार्किक रूप से दिए गए कथनों के अनुसार है/हैं।

कथन: सभी टीवी, रेडियो हैं। कुछ रेडियो, डायर हैं। सभी डायर, गर्म हैं।

निष्कर्ष I: कुछ टीवी, रेडियो हैं।

निष्कर्ष II: कुछ डायर, टीवी हैं।

Ans

- 1. केवल निष्कर्ष (II) कथनों के अनुसार है।
- 2. केवल निष्कर्ष (I) कथनों के अनुसार है।
- 3. दोनों निष्कर्ष (I) और (II) कथनों के अनुसार हैं।
- 4. न तो निष्कर्ष (I) और न ही (II) कथनों के अनुसार है।

Question ID : 264330155913

Option 1 ID : 264330611056

Option 2 ID : 264330611055

Option 3 ID : 264330611058

Option 4 ID : 264330611057

Status : Answered

Chosen Option : 4

Q.9 अंग्रेजी वर्णमाला क्रम के आधार पर FKQN, LOWT से एक निश्चित प्रकार से संबंधित है। उसी प्रकार, CHOJ, INUP से संबंधित है। समान तर्क का अनुसरण करते हुए, DOSG निम्नलिखित में से किससे संबंधित है?

Ans

- 1. IUVL
- 2. JSWM
- 3. HQWK
- 4. JUYM

Question ID : 264330151658

Option 1 ID : 264330594261

Option 2 ID : 264330594262

Option 3 ID : 264330594260

Option 4 ID : 264330594259

Status : Answered

Chosen Option : 4

Q.10 एक निश्चित कूट भाषा में, 'ESCORT' को 'GRBNQV' लिखा जाता है और 'APRON' को 'COQNP' लिखा जाता है। उस कूट भाषा में 'CRANKY' को कैसे लिखा जाएगा?

Ans

- 1. DPANJB
- 2. DQYNKB
- 3. EQZMJA
- 4. FPZKNC

Question ID : 264330155830

Option 1 ID : 264330610724

Option 2 ID : 264330610723

Option 3 ID : 264330610725

Option 4 ID : 264330610726

Status : Answered

Chosen Option : 3

Q.11 अंग्रेजी वर्णमाला क्रम के आधार पर दी गई श्रृंखला में प्रश्न चिह्न (?) के स्थान पर क्या आना चाहिए?

QDS, NET, KFU, HGV, ?

- Ans
- 1. FHU
 - 2. EHW
 - 3. GHU
 - 4. FGV

Question ID : 264330155795

Option 1 ID : 264330610585

Option 2 ID : 264330610583

Option 3 ID : 264330610586

Option 4 ID : 264330610584

Status : Answered

Chosen Option : 2

Q.12 अंग्रेजी वर्णमाला क्रम के आधार पर दी गई श्रृंखला में प्रश्न चिह्न (?) के स्थान पर क्या आना चाहिए?

SIY, VHA, YGC, BFE, ?

- Ans
- 1. FEH
 - 2. DFH
 - 3. DEG
 - 4. EEG

Question ID : 264330155800

Option 1 ID : 264330610603

Option 2 ID : 264330610605

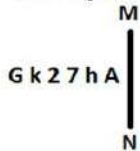
Option 3 ID : 264330610604

Option 4 ID : 264330610606

Status : Answered

Chosen Option : 4

Q.13 दी गई आकृति के उस सही दर्पण प्रतिबिंब को चुनिए, जो नीचे दर्शाए गए अनुसार दर्पण को MN पर रखने पर बनेगा।



- Ans
- 1. A h 7 2 k G
 - 2. A 4 7 2 k G
 - 3. A h 2 7 k G
 - 4. A h 7 2 k G

Question ID : 264330151521

Option 1 ID : 264330593714

Option 2 ID : 264330593712

Option 3 ID : 264330593713

Option 4 ID : 264330593711

Status : Answered

Chosen Option : 1

Q.14 अक्षरों के उस संयोजन को चुनिए जिसे दी गई श्रृंखला के रिक्त स्थानों में क्रमिक रूप से रखने पर श्रृंखला पूरी हो जाएगी।

HI_H__HI__IH

- Ans
- 1. HIIHH
 - 2. IIIHI
 - 3. IHHH
 - 4. HIIHHH

Question ID : 264330151646

Option 1 ID : 264330594213

Option 2 ID : 264330594212

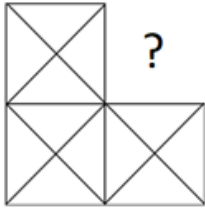
Option 3 ID : 264330594214

Option 4 ID : 264330594211

Status : Answered

Chosen Option : 4

Q.15 पैटर्न को पूरा करने वाली आकृति को पहचानिए (घूर्णन की अनुमति नहीं है)।



Ans

- 1.
- 2.
- 3.
- 4.

Question ID : 264330154512

Option 1 ID : 264330605513

Option 2 ID : 264330605514

Option 3 ID : 264330605511

Option 4 ID : 264330605512

Status : Answered

Chosen Option : 2

Q.16 यदि निम्नलिखित आकृति श्रृंखला को जारी रखना हो तो कौन-सी आकृति प्रश्न चिन्ह (?) के स्थान पर आनी चाहिए?

↑	W	S	T		
W	O	R	S	T	↑
S	8	8	R	R	↑
					↑
					8
					?

Ans

✗ 1.

	7	
T	R	↑
8		S

✓ 2.

	R	
7	T	↑
8		S

✗ 3.

	7	
T	R	8
S		↑

✗ 4.

	R	
7	T	8
S		↑

Question ID : 264330154741
 Option 1 ID : 264330606427
 Option 2 ID : 264330606430
 Option 3 ID : 264330606429
 Option 4 ID : 264330606428
 Status : Answered
 Chosen Option : 2

Q.17 दी गई श्रृंखला में प्रश्न चिन्ह '?' के स्थान पर क्या आना चाहिए?

7 22 52 112 232 ?

Ans

- ✗ 1. 462
- ✗ 2. 484
- ✗ 3. 482
- ✓ 4. 472

Question ID : 264330151460
 Option 1 ID : 264330593467
 Option 2 ID : 264330593470
 Option 3 ID : 264330593469
 Option 4 ID : 264330593468
 Status : Answered
 Chosen Option : 3

Q.18 नीचे दिए गए कथनों और निष्कर्षों को ध्यानपूर्वक पढ़िए। आपको मानना है कि दिए गए कथन सत्य हैं चाहे वे समान्यतः ज्ञात तथ्यों से अलग प्रतीत होते हों। आपको निश्चय करना है कि कौन-सा/कौन-से निष्कर्ष तार्किक रूप से दिए गए कथनों के अनुसार है/हैं।

कथन: कुछ गाय, जानवर हैं। सभी जानवर, बड़े हैं। कोई बड़ा, मोबाइल नहीं है।

निष्कर्ष I: सभी गाय, जानवर हैं।

निष्कर्ष II: कोई बड़ा, जानवर नहीं है।

- Ans**
- 1. दोनों निष्कर्ष (I) और (II) कथनों के अनुसार हैं।
 - 2. केवल निष्कर्ष (II) कथनों के अनुसार है।
 - 3. न तो निष्कर्ष (I) और न ही (II) कथनों के अनुसार है।
 - 4. केवल निष्कर्ष (I) कथनों के अनुसार है।

Question ID : 264330155891

Option 1 ID : 264330610970

Option 2 ID : 264330610968

Option 3 ID : 264330610969

Option 4 ID : 264330610967

Status : Answered

Chosen Option : 3

Q.19 यदि '+' और 'x' को आपस में बदल दिया जाए और '-' और '-' को आपस में बदल दिया जाए तो निम्नलिखित समीकरण में '?' के स्थान पर क्या आएगा?
 $14 + 5 + 2 - 1 \times 3 = ?$

- Ans**
- 1. 16
 - 2. 23
 - 3. 17
 - 4. 71

Question ID : 264330154665

Option 1 ID : 264330606125

Option 2 ID : 264330606124

Option 3 ID : 264330606123

Option 4 ID : 264330606126

Status : Answered

Chosen Option : 4

Q.20 यदि G का अर्थ '-', C का अर्थ '+', D का अर्थ '-', B का अर्थ '+', है, तो निम्नलिखित समीकरण में प्रश्न चिह्न (?) के स्थान पर क्या आएगा?
 $49 G 69 D 3 B 12 C 5 = ?$

- Ans**
- 1. 13
 - 2. 37
 - 3. 64
 - 4. 86

Question ID : 264330154686

Option 1 ID : 264330606207

Option 2 ID : 264330606208

Option 3 ID : 264330606209

Option 4 ID : 264330606210

Status : Answered

Chosen Option : 4

Q.1 निम्नलिखित में से कौन-सा देश ICC 2023 ODI क्रिकेट विश्व कप (ICC 2023 ODI Cricket World Cup) की मेजबानी कर रहा है?

- Ans
- 1. पाकिस्तान
 - 2. भारत
 - 3. ऑस्ट्रेलिया
 - 4. दक्षिण अफ्रीका

Question ID : 264330158222
Option 1 ID : 264330620248
Option 2 ID : 264330620247
Option 3 ID : 264330620249
Option 4 ID : 264330620250
Status : Not Answered
Chosen Option : --

Q.2 भारतीय शास्त्रीय गायक पंडित जसराज का संबंध निम्नलिखित में से किस संगीत घराने से है?

- Ans
- 1. मेवाती घराना
 - 2. दगारी घराना
 - 3. पटियाला घराना
 - 4. ग्वालियर घराना

Question ID : 264330161768
Option 1 ID : 264330634399
Option 2 ID : 264330634400
Option 3 ID : 264330634402
Option 4 ID : 264330634401
Status : Answered
Chosen Option : 2

Q.3 भारत की जनगणना 2011 के अनुसार निम्नलिखित में से किस राज्य की साक्षरता दर सबसे कम है?

- Ans
- 1. मिजोरम
 - 2. केरल
 - 3. त्रिपुरा
 - 4. गोवा

Question ID : 264330160162
Option 1 ID : 264330627987
Option 2 ID : 264330627990
Option 3 ID : 264330627988
Option 4 ID : 264330627989
Status : Answered
Chosen Option : 1

Q.4 भारत के संविधान के अनुच्छेद 29-30 किससे संबंधित है?

- Ans
- 1. स्वतंत्रता का अधिकार
 - 2. समानता का अधिकार
 - 3. धार्मिक स्वतंत्रता का अधिकार
 - 4. सांस्कृतिक एवं शैक्षणिक अधिकार

Question ID : 264330159902
Option 1 ID : 264330626956
Option 2 ID : 264330626955
Option 3 ID : 264330626957
Option 4 ID : 264330626958
Status : Answered
Chosen Option : 4

Q.5 निम्नलिखित में से किस राज्य में दिन और रात के तापमान में लगभग कोई अंतर नहीं होता है?

- Ans
- 1. बिहार
 - 2. राजस्थान
 - 3. पंजाब
 - 4. केरल

Question ID : 264330160148
Option 1 ID : 264330627934
Option 2 ID : 264330627932
Option 3 ID : 264330627933
Option 4 ID : 264330627931
Status : Answered
Chosen Option : 2

Q.6 पंडित भजन सोपोरी (Pandit Bhajan Sopori), जिनका वर्ष 2022 में निधन हो गया, किस संगीत वाद्ययंत्र के प्रसिद्ध वादक थे?

- Ans
- 1. तबला
 - 2. संतूर
 - 3. रावणहत्था
 - 4. सितार

Question ID : 264330155510
Option 1 ID : 264330609443
Option 2 ID : 264330609444
Option 3 ID : 264330609445
Option 4 ID : 264330609446
Status : Answered
Chosen Option : 2

Q.7 प्रसिद्ध बृहदेश्वर मंदिर किस राज्य में स्थित है?

- Ans
- 1. तमिलनाडु
 - 2. आंध्र प्रदेश
 - 3. केरल
 - 4. कर्नाटक

Question ID : 264330160784
Option 1 ID : 264330630467
Option 2 ID : 264330630470
Option 3 ID : 264330630468
Option 4 ID : 264330630469
Status : Answered
Chosen Option : 1

Q.8 नृत्यांगना पद्मा सुब्रमण्यम, अलार्मेल वल्ली, यामिनी कृष्णमूर्ति और अनीता रत्नम _____ की महान प्रतिपादक हैं।

- Ans 1. ओडिसी
 2. भरतनाट्यम
 3. कथक
 4. मोहिनीअट्टम

Question ID : 264330160807
Option 1 ID : 264330630559
Option 2 ID : 264330630562
Option 3 ID : 264330630560
Option 4 ID : 264330630561
Status : Answered
Chosen Option : 2

Q.9 भारत के संविधान के अनुच्छेद 129 के बारे में निम्नलिखित में से कौन-सा कथन सही है?

- Ans 1. यह सर्वोच्च न्यायालय को राष्ट्रपति को सलाहकारी राय देने का प्रावधान करता है।
 2. यह सर्वोच्च न्यायालय को अभिलेख न्यायालय होने का प्रावधान करता है।
 3. यह सर्वोच्च न्यायालय को अपील की सर्वोच्च अदालत बनाने का प्रावधान करता है।
 4. यह सर्वोच्च न्यायालय को मूल क्षेत्राधिकार वाला न्यायालय बनाने का प्रावधान करता है

Question ID : 264330161291
Option 1 ID : 264330632491
Option 2 ID : 264330632494
Option 3 ID : 264330632492
Option 4 ID : 264330632493
Status : Not Answered
Chosen Option : --

Q.10 निम्नलिखित में से कौन-सा सरकारी बजट में पूंजीगत प्राप्ति (capital receipt) का एक उदाहरण है?

- Ans 1. सरकारी-स्वामित्व वाले उद्यमों से आय
 2. सरकारी बंधपत्र की बिक्री
 3. नागरिकों से वसूला गया राजस्व कर
 4. विदेशों से प्राप्त अनुदान

Question ID : 264330157278
Option 1 ID : 264330616478
Option 2 ID : 264330616477
Option 3 ID : 264330616475
Option 4 ID : 264330616476
Status : Answered
Chosen Option : 1

Q.11 वसुन्धरा दोरास्वामी को किस नृत्य शैली के लिए वर्ष 2019 का संगीत नाटक अकादमी पुरस्कार (Akademi Puraskar) मिला?

- Ans
- 1. मोहिनीअट्टम
 - 2. कथकली
 - 3. कथक
 - 4. भरतनाट्यम

Question ID : 264330155480
Option 1 ID : 264330609326
Option 2 ID : 264330609325
Option 3 ID : 264330609324
Option 4 ID : 264330609323
Status : Not Answered
Chosen Option : --

Q.12 _____ का नुआखाई (Nuakhai) त्योहार गणेश चतुर्थी के अगले दिन, भाद्रव (अगस्त-सितंबर) के चंद्र पखवाड़े की पंचमी तिथि (पांचवें दिन) को मनाया जाता है।

- Ans
- 1. पश्चिम बंगाल
 - 2. मेघालय
 - 3. असम
 - 4. ओडिशा

Question ID : 264330160815
Option 1 ID : 264330630592
Option 2 ID : 264330630593
Option 3 ID : 264330630591
Option 4 ID : 264330630594
Status : Answered
Chosen Option : 2

Q.13 रॉबर्ट हुक ने 'कोशिका' शब्द का प्रयोग किस वर्ष किया था?

- Ans
- 1. 1875
 - 2. 1765
 - 3. 1675
 - 4. 1665

Question ID : 264330157811
Option 1 ID : 264330618606
Option 2 ID : 264330618605
Option 3 ID : 264330618604
Option 4 ID : 264330618603
Status : Not Answered
Chosen Option : --

Q.14 निम्नलिखित में से रेड अर्थ एंड पोरिंग रेन: ए नॉवेल (Red Earth and Pouring Rain: A Novel) पुस्तक के लेखक कौन हैं?

Ans

- 1. रस्किन बांड (Ruskin Bond)
- 2. अश्विन सांघी (Ashwin Sanghi)
- 3. विक्रम चंद्रा (Vikram Chandra)
- 4. शशि थरूर (Shashi Tharoor)

Question ID : 264330155455

Option 1 ID : 264330609226

Option 2 ID : 264330609225

Option 3 ID : 264330609224

Option 4 ID : 264330609223

Status : Not Answered

Chosen Option : --

Q.15 अप्रैल 2023 में, तमिलनाडु ने निम्नलिखित में से किस पर प्रतिबंध लगाने वाला एक विधेयक पारित किया?

Ans

- 1. शराब
- 2. लॉटरी
- 3. ऑनलाइन जुआ
- 4. गुटका

Question ID : 264330158336

Option 1 ID : 264330620705

Option 2 ID : 264330620703

Option 3 ID : 264330620704

Option 4 ID : 264330620706

Status : Not Answered

Chosen Option : --

Q.16 निम्नलिखित में से सचिन तेंदुलकर की आत्मकथा कौन-सी है?

Ans

- 1. अनब्रेकेबल (Unbreakable)
- 2. प्लेइंग इट माई वे (Playing It My Way)
- 3. आई एम नो मसीहा (I Am No Messiah)
- 4. माई मेनी ट्रिस्ट्स विद गॉड (My Many Trysts with God)

Question ID : 264330155495

Option 1 ID : 264330609386

Option 2 ID : 264330609385

Option 3 ID : 264330609384

Option 4 ID : 264330609383

Status : Answered

Chosen Option : 2

Q.17 निम्नलिखित में से कौन अंतरण अदायगियों (transfer payments) को सर्वोत्तम रूप से परिभाषित करता है?

- Ans
- 1. श्रम या सेवाओं के बदले में व्यक्तियों को किया गया भुगतान
 - 2. व्यवसायों द्वारा अपने शेयरधारकों को लाभ के हिस्से के रूप में किया गया भुगतान
 - 3. करों के रूप में व्यक्तियों द्वारा सरकार को किया गया भुगतान
 - 4. बिना किसी संगत वस्तुओं या सेवाओं के उत्पादन के सरकार द्वारा व्यक्तियों को किया गया भुगतान

Question ID : 264330157317

Option 1 ID : 264330616631

Option 2 ID : 264330616633

Option 3 ID : 264330616634

Option 4 ID : 264330616632

Status : Not Answered

Chosen Option : --

Q.18 किस अभिनय का संबंध वेशभूषा, आभूषण, चेहरे के श्रृंगार आदि के उपयोग से है ?

- Ans
- 1. वाचिक अभिनय
 - 2. आंगिक अभिनय
 - 3. आहार्य अभिनय
 - 4. सात्विक अभिनय

Question ID : 264330159052

Option 1 ID : 264330623568

Option 2 ID : 264330623569

Option 3 ID : 264330623567

Option 4 ID : 264330623570

Status : Not Answered

Chosen Option : --

Q.19 बंगाल के निम्नलिखित स्वतंत्रता सेनानी वकीलों में से किसे देशबंधु के नाम से जाना जाता है?

- Ans
- 1. चितरंजन दास
 - 2. बिपिन चंद्र पाल
 - 3. दुर्गा मोहन दास
 - 4. सतीश रंजन दास

Question ID : 264330160889

Option 1 ID : 264330630890

Option 2 ID : 264330630887

Option 3 ID : 264330630888

Option 4 ID : 264330630889

Status : Answered

Chosen Option : 1

Q.20 निम्नलिखित में से कौन-सा दैनिक वायुमंडलीय मौसम परिवर्तन से संबंधित है?

- Ans
- 1. क्षोभ मंडल
 - 2. समताप सीमा
 - 3. स्थलमंडल
 - 4. दुर्बलता मंडल

Question ID : 264330161312

Option 1 ID : 264330632576

Option 2 ID : 264330632575

Option 3 ID : 264330632577

Option 4 ID : 264330632578

Status : Not Answered

Chosen Option : --

Q.21 शुद्धगतिक श्यानता की गौस इकाई (Gaussian unit) क्या है?

- Ans
- 1. डार्सी (Darcy)
 - 2. स्टोक्स (Stokes)
 - 3. जूल (Joule)
 - 4. ऐम्पियर (Ampere)

Question ID : 264330157785
Option 1 ID : 264330618499
Option 2 ID : 264330618501
Option 3 ID : 264330618502
Option 4 ID : 264330618500
Status : Not Answered
Chosen Option : --

Q.22 'मित्र मेला (Mitra Mela)' _____ द्वारा स्थापित एक क्रांतिकारी संगठन था।

- Ans
- 1. खुदीराम बोस
 - 2. विनायक सावरकर
 - 3. शिशिर कुमार बोस
 - 4. भूपेन्द्र नाथ बोस

Question ID : 264330162334
Option 1 ID : 264330636666
Option 2 ID : 264330636663
Option 3 ID : 264330636665
Option 4 ID : 264330636664
Status : Not Answered
Chosen Option : --

Q.23 निम्नलिखित में से किस राज्य ने 54 वर्षों के अंतराल के बाद मार्च 2023 में रियाद में संतोष ट्रॉफी (Santosh Trophy) जीती?

- Ans
- 1. आंध्र प्रदेश
 - 2. तमिलनाडु
 - 3. महाराष्ट्र
 - 4. कर्नाटक

Question ID : 264330161441
Option 1 ID : 264330633093
Option 2 ID : 264330633092
Option 3 ID : 264330633094
Option 4 ID : 264330633091
Status : Not Answered
Chosen Option : --

Q.24 निम्नलिखित में से किस स्टेडियम में ODI क्रिकेट विश्व कप 2011 का फाइनल मैच खेला गया था?

- Ans
- 1. ईडन गार्डन्स
 - 2. फ़िरोज़ शाह कोटला स्टेडियम
 - 3. डी.वाई. पाटिल स्टेडियम
 - 4. वानखेड़े स्टेडियम

Question ID : 264330158231
Option 1 ID : 264330620285
Option 2 ID : 264330620286
Option 3 ID : 264330620284
Option 4 ID : 264330620283
Status : Not Answered
Chosen Option : --

Q.25 18वें आवधिक श्रम बल सर्वेक्षण (PLFS) के अनुसार, शहरी क्षेत्रों में महिलाओं (15 वर्ष और उससे अधिक आयु) के बीच बेरोजगारी दर जनवरी-मार्च 2023 में घटकर _____ हो गई।

- Ans
- 1. 8.2%
 - 2. 9.2%
 - 3. 9.7%
 - 4. 7.8%

Question ID : 264330166023
Option 1 ID : 264330651168
Option 2 ID : 264330651169
Option 3 ID : 264330651170
Option 4 ID : 264330651167
Status : Not Answered
Chosen Option : --

Section : English Language and Comprehension

Q.1 Select the most appropriate option to fill in the blank.
Early childhood experiences have a _____ impact on brain development affecting learning, health, behaviour, and, ultimately, productivity and income.

- Ans
- 1. perfect
 - 2. superficial
 - 3. profound
 - 4. basic

Question ID : 264330151902
Option 1 ID : 264330595225
Option 2 ID : 264330595223
Option 3 ID : 264330595224
Option 4 ID : 264330595226
Status : Not Answered
Chosen Option : --

Q.2 Select the most appropriate synonym of the given word.
Fragile

- Ans** 1. Brittle
 2. Unkempt
 3. Sturdy
 4. Intense

Question ID : 264330151881
Option 1 ID : 264330595144
Option 2 ID : 264330595143
Option 3 ID : 264330595146
Option 4 ID : 264330595145
Status : Answered
Chosen Option : 1

Q.3 Select the most appropriate meaning of the underlined segment in the given sentence.
When it comes to playing the guitar, Jim always hits the nail on the head.

- Ans** 1. Makes a mistake
 2. Is dishonest
 3. Misses the point
 4. Does something right

Question ID : 264330152924
Option 1 ID : 264330599276
Option 2 ID : 264330599278
Option 3 ID : 264330599275
Option 4 ID : 264330599277
Status : Answered
Chosen Option : 1

Q.4 The following sentence has been split into four segments. Identify the segment that contains an error.
Harish told me / in the morning / that Gaurav will / come tomorrow.

- Ans** 1. come tomorrow
 2. in the morning
 3. that Gaurav will
 4. Harish told me

Question ID : 264330155324
Option 1 ID : 264330608738
Option 2 ID : 264330608736
Option 3 ID : 264330608737
Option 4 ID : 264330608735
Status : Answered
Chosen Option : 3

Q.5 Identify the **INCORRECTLY** spelt word in the following sentence.
The detective and his agent inspected the crime scene yesterday.

- Ans**
- 1. crime
 - 2. yesterday
 - 3. agent
 - 4. detective

Question ID : 264330152601
Option 1 ID : 264330598009
Option 2 ID : 264330598010
Option 3 ID : 264330598008
Option 4 ID : 264330598007
Status : Answered
Chosen Option : 1

Q.6 Select the most appropriate segment that can substitute the underlined word in the following sentence.
Iraq was governed by autocracy when Saddam Hussain was the President.

- Ans**
- 1. the common people
 - 2. the wealthy class
 - 3. one man with absolute power
 - 4. the King and his heir

Question ID : 264330152630
Option 1 ID : 264330598123
Option 2 ID : 264330598125
Option 3 ID : 264330598126
Option 4 ID : 264330598124
Status : Answered
Chosen Option : 3

Q.7 Select the **INCORRECTLY** spelt word.

- Ans**
- 1. Ballad
 - 2. Beneficiary
 - 3. Rampant
 - 4. Tastimonial

Question ID : 264330152783
Option 1 ID : 264330598723
Option 2 ID : 264330598726
Option 3 ID : 264330598725
Option 4 ID : 264330598724
Status : Answered
Chosen Option : 3

Q.8 Select the most appropriate ANTONYM of the underlined word.
He was admired for introducing welfare programmes.

- Ans
- 1. Appreciated
 - 2. Despised
 - 3. Confessed
 - 4. Succeeded

Question ID : 264330151815
Option 1 ID : 264330594888
Option 2 ID : 264330594889
Option 3 ID : 264330594887
Option 4 ID : 264330594890
Status : Answered
Chosen Option : 2

Q.9 Select the most appropriate meaning of the underlined idiom.

The company was on thin ice.

- Ans
- 1. Depending on business competitors
 - 2. In a situation of comfort
 - 3. In a precarious or risky situation
 - 4. Forcing itself to collaborate

Question ID : 264330153145
Option 1 ID : 264330600142
Option 2 ID : 264330600139
Option 3 ID : 264330600140
Option 4 ID : 264330600141
Status : Answered
Chosen Option : 3

Q.10 Select the most appropriate meaning of the given idiom.
Cup of tea

- Ans
- 1. A cup brimming with tea
 - 2. Something one likes/excels in
 - 3. Favourite pastime
 - 4. Long held desire

Question ID : 264330159725
Option 1 ID : 264330626256
Option 2 ID : 264330626255
Option 3 ID : 264330626258
Option 4 ID : 264330626257
Status : Answered
Chosen Option : 4

Q.11 Select the most appropriate meaning of the underlined idiom.

The council president is known to play devil's advocate often.

- Ans 1. To argue, just for the sake of it
 2. Make one's own destiny
 3. To play risky games
 4. To allow others to rise

Question ID : 264330153148
Option 1 ID : 264330600153
Option 2 ID : 264330600154
Option 3 ID : 264330600151
Option 4 ID : 264330600152
Status : Answered
Chosen Option : 1

Q.12 Parts of the following sentence have been given as options. Select the option that contains an error.
Perhaps my family visit the Taj Mahal next month.

- Ans 1. Perhaps
 2. my family visit
 3. the Taj Mahal
 4. next month

Question ID : 264330152814
Option 1 ID : 264330598847
Option 2 ID : 264330598848
Option 3 ID : 264330598849
Option 4 ID : 264330598850
Status : Answered
Chosen Option : 1

Q.13 The following sentence has been split into four segments. Identify the segment that contains a grammatical error.
In America, / most of the people / can speak / the English well.

- Ans 1. the English well
 2. can speak
 3. most of the people
 4. In America,

Question ID : 264330153164
Option 1 ID : 264330600218
Option 2 ID : 264330600217
Option 3 ID : 264330600216
Option 4 ID : 264330600215
Status : Answered
Chosen Option : 1

Q.14 Select the option that can be used as a one-word substitute for the underlined group of words.

He studies the subject known as the scientific study of insects.

- Ans
- 1. Biology
 - 2. Alchemy
 - 3. Entomology
 - 4. Etymology

Question ID : 264330153513
Option 1 ID : 264330601565
Option 2 ID : 264330601566
Option 3 ID : 264330601563
Option 4 ID : 264330601564
Status : Answered
Chosen Option : 3

Q.15 Select the most appropriate option to fill in the blank.
Ours is _____ house of all the houses in our area.

- Ans
- 1. the most biggest
 - 2. the bigger
 - 3. the biggest
 - 4. the more bigger

Question ID : 264330152733
Option 1 ID : 264330598533
Option 2 ID : 264330598532
Option 3 ID : 264330598531
Option 4 ID : 264330598534
Status : Answered
Chosen Option : 3

Q.16 Select the option that will improve the underlined part of the given sentence. In case no improvement is needed, select 'No improvement required'.

With all their little comforts destroyed, the survivors were thrown still farther back into barbarism.

- Ans
- 1. still a little farther into barbarism
 - 2. No improvement required
 - 3. still further back into barbarism
 - 4. still further back for barbarism

Question ID : 264330153611
Option 1 ID : 264330601928
Option 2 ID : 264330601930
Option 3 ID : 264330601929
Option 4 ID : 264330601927
Status : Not Answered
Chosen Option : --

Q.17 The following sentence has been split into four segments. Identify the segment that contains a grammatical error.

Please / explain me / how this plan / did not work.

- Ans
- 1. Please
 - 2. did not work
 - 3. how this plan
 - 4. explain me

Question ID : 264330153419
Option 1 ID : 264330601207
Option 2 ID : 264330601210
Option 3 ID : 264330601209
Option 4 ID : 264330601208
Status : Answered
Chosen Option : 3

Q.18 The following sentence has been split into four segments. Identify the segment that contains a grammatical error.

She performed / the dance routine / perfect, / impressing everyone.

- Ans
- 1. impressing everyone
 - 2. She performed
 - 3. the dance routine
 - 4. perfect

Question ID : 264330153182
Option 1 ID : 264330600290
Option 2 ID : 264330600287
Option 3 ID : 264330600288
Option 4 ID : 264330600289
Status : Answered
Chosen Option : 1

Q.19 Select the most appropriate ANTONYM of the underlined word.
Butterfly was attracted towards the bright flowers.

- Ans
- 1. Reckoned
 - 2. Recurred
 - 3. Repulsed
 - 4. Reargued

Question ID : 264330151818
Option 1 ID : 264330594900
Option 2 ID : 264330594901
Option 3 ID : 264330594902
Option 4 ID : 264330594899
Status : Not Answered
Chosen Option : --

Q.20 Select the INCORRECTLY spelt word.

- Ans 1. Rhyme
 2. Relevant
 3. Succesful
 4. Queue

Question ID : 264330153152
Option 1 ID : 264330600169
Option 2 ID : 264330600168
Option 3 ID : 264330600170
Option 4 ID : 264330600167
Status : Answered
Chosen Option : 3

Comprehension:

In the following passage, some words have been deleted. Read the passage carefully and select the most appropriate option to fill in each blank.

Fingerprinting is the one of the methods of (1)_____ using the impression made by the minute ridge formation or patterns found on the fingertips. No two persons have exactly the same (2)_____ of ridge patterns, they remain unchanged throughout the life. Fingerprints may be classified and filled on the basis of the ridge patterns, setting up an identification system that is almost (3)_____. Today, law enforcement agencies use computers to (4)_____ record fingerprints and to transmit them electronically to other agencies for comparison. By comparing fingerprints of the criminals with the recorded fingerprints, officials can establish (5)_____ proof of the presence or identity of a person.

SubQuestion No : 21

Q.21 Select the most appropriate option to fill in blank number 1.

- Ans 1. identification
 2. demonstration
 3. involvement
 4. satisfaction

Question ID : 264330152908
Option 1 ID : 264330599216
Option 2 ID : 264330599217
Option 3 ID : 264330599218
Option 4 ID : 264330599215
Status : Answered
Chosen Option : 1

Comprehension:

In the following passage, some words have been deleted. Read the passage carefully and select the most appropriate option to fill in each blank.

Fingerprinting is the one of the methods of (1)_____ using the impression made by the minute ridge formation or patterns found on the fingertips. No two persons have exactly the same (2)_____ of ridge patterns, they remain unchanged throughout the life. Fingerprints may be classified and filled on the basis of the ridge patterns, setting up an identification system that is almost (3)_____. Today, law enforcement agencies use computers to (4)_____ record fingerprints and to transmit them electronically to other agencies for comparison. By comparing fingerprints of the criminals with the recorded fingerprints, officials can establish (5)_____ proof of the presence or identity of a person.

SubQuestion No : 22

Q.22 Select the most appropriate option to fill in blank number 2.

- Ans 1. settlement
 2. arrangement
 3. statement
 4. management

Question ID : 264330152909

Option 1 ID : 264330599221

Option 2 ID : 264330599219

Option 3 ID : 264330599222

Option 4 ID : 264330599220

Status : Answered

Chosen Option : 1

Comprehension:

In the following passage, some words have been deleted. Read the passage carefully and select the most appropriate option to fill in each blank.

Fingerprinting is the one of the methods of (1)_____ using the impression made by the minute ridge formation or patterns found on the fingertips. No two persons have exactly the same (2)_____ of ridge patterns, they remain unchanged throughout the life. Fingerprints may be classified and filled on the basis of the ridge patterns, setting up an identification system that is almost (3)_____. Today, law enforcement agencies use computers to (4)_____ record fingerprints and to transmit them electronically to other agencies for comparison. By comparing fingerprints of the criminals with the recorded fingerprints, officials can establish (5)_____ proof of the presence or identity of a person.

SubQuestion No : 23

Q.23 Select the most appropriate option to fill in blank number 3.

- Ans 1. infallible
 2. risky
 3. fallible
 4. unreliable

Question ID : 264330152910

Option 1 ID : 264330599225

Option 2 ID : 264330599226

Option 3 ID : 264330599224

Option 4 ID : 264330599223

Status : Answered

Chosen Option : 4

Comprehension:

In the following passage, some words have been deleted. Read the passage carefully and select the most appropriate option to fill in each blank.

Fingerprinting is the one of the methods of (1)_____ using the impression made by the minute ridge formation or patterns found on the fingertips. No two persons have exactly the same (2)_____ of ridge patterns, they remain unchanged throughout the life. Fingerprints may be classified and filled on the basis of the ridge patterns, setting up an identification system that is almost (3)_____. Today, law enforcement agencies use computers to (4)_____ record fingerprints and to transmit them electronically to other agencies for comparison. By comparing fingerprints of the criminals with the recorded fingerprints, officials can establish (5)_____ proof of the presence or identity of a person.

SubQuestion No : 24

Q.24 Select the most appropriate option to fill in blank number 4.

- Ans 1. digitally
 2. physically
 3. mentally
 4. manually

Question ID : 264330152911

Option 1 ID : 264330599228

Option 2 ID : 264330599229

Option 3 ID : 264330599230

Option 4 ID : 264330599227

Status : Answered

Chosen Option : 1

Comprehension:

In the following passage, some words have been deleted. Read the passage carefully and select the most appropriate option to fill in each blank.

Fingerprinting is the one of the methods of (1)_____ using the impression made by the minute ridge formation or patterns found on the fingertips. No two persons have exactly the same (2)_____ of ridge patterns, they remain unchanged throughout the life. Fingerprints may be classified and filled on the basis of the ridge patterns, setting up an identification system that is almost (3)_____. Today, law enforcement agencies use computers to (4)_____ record fingerprints and to transmit them electronically to other agencies for comparison. By comparing fingerprints of the criminals with the recorded fingerprints, officials can establish (5)_____ proof of the presence or identity of a person.

SubQuestion No : 25

Q.25 Select the most appropriate option to fill in blank number 5.

- Ans 1. doubt
 2. provisional
 3. unconfirmed
 4. absolute

Question ID : 264330152912

Option 1 ID : 264330599231

Option 2 ID : 264330599232

Option 3 ID : 264330599233

Option 4 ID : 264330599234

Status : Answered

Chosen Option : 2

Multi Tasking Non Technical Staff and Havaladar CBIC and CBN Examination 2023

Roll Number	KD Job Updates
Candidate Name	KD Job Updates
Venue Name	Sri Balaji College Of Engineering And Technology
Exam Date	01/09/2023
Exam Time	4:00 PM - 6:00 PM
Subject	MTS Non Tech Havaladar CBIC and CBN Examination 2023

Section : Numerical and Mathematical Ability

Q.1 क्रमशः अर्धवार्षिक और वार्षिक रूप से ब्याज संयोजित होने पर एक वर्ष में 8% वार्षिक ब्याज की दर पर ₹1,50,000 की धनराशि पर अर्जित ब्याज का अंतर ₹ _____ होगा।

- Ans
- ✓ 1. 240
 - ✗ 2. 420
 - ✗ 3. 360
 - ✗ 4. 120

Question ID : 264330153811
Option 1 ID : 264330602710
Option 2 ID : 264330602707
Option 3 ID : 264330602708
Option 4 ID : 264330602709
Status : Answered
Chosen Option : 1

Q.2 स्वाति ₹4,200 के साथ एक व्यवसाय शुरू करती है और 5 माह बाद, बानी स्वाति के साथ उसकी भागीदार के रूप में जुड़ जाती है। एक वर्ष के बाद, लाभ को स्वाति और बानी के बीच 2 : 5 के अनुपात में बांटा जाता है। बानी ने कितनी धनराशि का योगदान दिया?

- Ans
- ✗ 1. ₹19,000
 - ✗ 2. ₹17,050
 - ✗ 3. ₹16,500
 - ✓ 4. ₹18,000

Question ID : 264330156186
Option 1 ID : 264330612146
Option 2 ID : 264330612143
Option 3 ID : 264330612145
Option 4 ID : 264330612144
Status : Answered
Chosen Option : 4

Q.3 एक वस्तु का क्रय मूल्य ₹1,120 है। ₹205 की छूट देने के बाद 15% का लाभ होता है, तो वस्तु का अंकित मूल्य कितना है?

- Ans
- ✗ 1. ₹1,350
 - ✗ 2. ₹1,580
 - ✓ 3. ₹1,493
 - ✗ 4. ₹1,760

Question ID : 264330156447
Option 1 ID : 264330613181
Option 2 ID : 264330613180
Option 3 ID : 264330613179
Option 4 ID : 264330613182
Status : Answered
Chosen Option : 3

Q.4 सरल कीजिए।

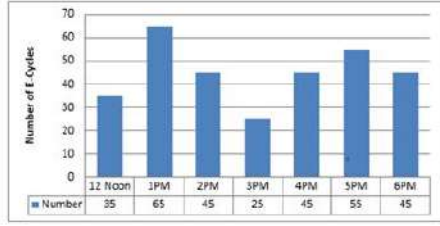
$$24 \div 6 \times \left(\frac{3}{4} \text{ of } \frac{1}{3} + \frac{5}{3} \text{ of } \frac{3}{4} \right) = ?$$

- Ans
- ✓ 1. 6
 - ✗ 2. 8
 - ✗ 3. 9
 - ✗ 4. 3

Question ID : 264330156424
Option 1 ID : 264330613088
Option 2 ID : 264330613089
Option 3 ID : 264330613087
Option 4 ID : 264330613090
Status : Answered
Chosen Option : 1

Q.5 निम्न दंड आलेख में 12:00 P.M. से 6:00 P.M. तक एक मेट्रो स्टेशन पर E-साइकिल पार्किंग की संख्या को दर्शाया गया है।

यदि पार्किंग चार्ज ₹3 प्रति घंटा है, तो 2:00 P.M. से 6:00 P.M. तक पार्किंग चार्ज की कुल वसूली कितनी होगी?



संदर्भ: Number of E- cycles - E-साइकिलों की संख्या, 12 noon – दोपहर 12 बजे, Number – संख्या

- Ans
- ✓ 1. ₹645
 - ✗ 2. ₹695
 - ✗ 3. ₹655
 - ✗ 4. ₹625

Question ID : 264330154063

Option 1 ID : 264330603717

Option 2 ID : 264330603718

Option 3 ID : 264330603716

Option 4 ID : 264330603715

Status : Answered

Chosen Option : 1

Q.6 एक पंसारी को क्रमशः ₹18 प्रति किलोग्राम और ₹22 प्रति किलोग्राम की दो किसमों की दालों को किस अनुपात में मिलाना चाहिए, ताकि ₹19.50 प्रति किलोग्राम का मिश्रण प्राप्त हो सके?

- Ans
- ✗ 1. 1 : 5
 - ✗ 2. 5 : 2
 - ✗ 3. 5 : 1
 - ✓ 4. 5 : 3

Question ID : 264330156052

Option 1 ID : 264330611608

Option 2 ID : 264330611610

Option 3 ID : 264330611607

Option 4 ID : 264330611609

Status : Answered

Chosen Option : 4

Q.7 एक व्यक्ति बिंदु A से बिंदु B तक 40 km/h की चाल से यात्रा करता है और 60 km/h की चाल से बिंदु A पर वापस आता है। यदि यात्रा में कुल 5 घंटे का समय लगता है, तो बिंदु A और बिंदु B के बीच की दूरी कितनी है?

- Ans
- ✓ 1. 120 km
 - ✗ 2. 130 km
 - ✗ 3. 125 km
 - ✗ 4. 135 km

Question ID : 264330156273

Option 1 ID : 264330612491

Option 2 ID : 264330612493

Option 3 ID : 264330612492

Option 4 ID : 264330612494

Status : Answered

Chosen Option : 1

Q.8 यदि $A : B = 3 : 4$ और $A : C = 9 : 8$, तो $A : B : C$ बराबर _____ होगा।

- Ans
- 1. $9 : 8 : 8$
 - 2. $9 : 8 : 12$
 - 3. $3 : 4 : 6$
 - 4. $9 : 12 : 8$

Question ID : 264330153874
Option 1 ID : 264330602961
Option 2 ID : 264330602960
Option 3 ID : 264330602959
Option 4 ID : 264330602962
Status : Answered
Chosen Option : 4

Q.9 यदि साधारण ब्याज पर 3 वर्ष में ₹3,650 की धनराशि ₹4,526 हो जाती है, तो वार्षिक ब्याज की दर क्या है?

- Ans
- 1. 6%
 - 2. 10%
 - 3. 12%
 - 4. 8%

Question ID : 264330156483
Option 1 ID : 264330613319
Option 2 ID : 264330613322
Option 3 ID : 264330613320
Option 4 ID : 264330613321
Status : Answered
Chosen Option : 4

Q.10 ₹3.80 प्रति किलोग्राम मूल्य वाली कितने किलोग्राम चीनी को ₹4.60 प्रति किलोग्राम मूल्य वाली 60 किलोग्राम चीनी के साथ मिलाया जाना चाहिए, ताकि परिणामी मिश्रण को ₹5.20 प्रति किलोग्राम के मूल्य पर बेचने से 30% का लाभ अर्जित किया जा सके?

- Ans
- 1. 160 kg
 - 2. 170 kg
 - 3. 180 kg
 - 4. 120 kg

Question ID : 264330156070
Option 1 ID : 264330611682
Option 2 ID : 264330611681
Option 3 ID : 264330611680
Option 4 ID : 264330611679
Status : Answered
Chosen Option : 3

Q.11 X की आय, Y की आय से 12% अधिक है। Y की आय, X की आय से कितने प्रतिशत कम है?

- Ans
- 1. $10\frac{2}{7}\%$
 - 2. $10\frac{4}{7}\%$
 - 3. $10\frac{3}{7}\%$
 - 4. $10\frac{5}{7}\%$

Question ID : 264330156216

Option 1 ID : 264330612263

Option 2 ID : 264330612265

Option 3 ID : 264330612264

Option 4 ID : 264330612266

Status : Answered

Chosen Option : 4

Q.12 $8 \times 6 \times 6$ इकाई के आयाम वाले घनाभ से $0.5 \times 0.5 \times 0.5$ इकाई आयाम के छोटे-छोटे घन काटे जाते हैं। बड़े घनाभ से कितने छोटे-छोटे घन काटे जा सकते हैं?

- Ans
- 1. 1152
 - 2. 2304
 - 3. 1552
 - 4. 576

Question ID : 264330153826

Option 1 ID : 264330602769

Option 2 ID : 264330602767

Option 3 ID : 264330602770

Option 4 ID : 264330602768

Status : Answered

Chosen Option : 2

Q.13 शुद्ध दूध वाले एक पात्र में से, 35% दूध निकालकर उसके स्थान पर पानी डाल दिया जाता है और इस प्रक्रिया को तीन बार दोहराया जाता है। तीसरी प्रक्रिया के अंत में दूध की शुद्धता कितनी होगी?

- Ans
- 1. $21\frac{23}{80}\%$
 - 2. $23\frac{37}{80}\%$
 - 3. $27\frac{37}{80}\%$
 - 4. $37\frac{21}{80}\%$

Question ID : 264330154077

Option 1 ID : 264330603771

Option 2 ID : 264330603774

Option 3 ID : 264330603772

Option 4 ID : 264330603773

Status : Answered

Chosen Option : 3

Q.14 निम्न तालिका में 2015 से 2018 तक लिबरल आर्ट्स और इंजीनियरिंग में उच्च शिक्षा प्राप्त करने के लिए एक विश्वविद्यालय में नामांकित होने वाले छात्रों की संख्या को दर्शाया गया है। तालिका का ध्यानपूर्वक अध्ययन कीजिए और निम्नलिखित प्रश्न का उत्तर दीजिए।

वर्ष	छात्रों की संख्या	
	लिबरल आर्ट्स	इंजीनियरिंग
2015	345	650
2016	549	521
2017	477	846
2018	781	695

2015 से 2018 तक लिबरल आर्ट्स में प्रति वर्ष नामांकित छात्रों की औसत संख्या इंजीनियरिंग में नामांकित छात्रों की औसत संख्या से कितनी अधिक या कम है?

- Ans** ✓ 1. 140, कम
✗ 2. 140, अधिक
✗ 3. 127, अधिक
✗ 4. 127, कम

Question ID : 264330156496

Option 1 ID : 264330613371

Option 2 ID : 264330613372

Option 3 ID : 264330613374

Option 4 ID : 264330613373

Status : Answered

Chosen Option : 1

Q.15 दो अंकों की वह सबसे बड़ी संख्या ज्ञात कीजिए जिससे 219, 365, 511 को भाग देने पर क्रमशः 3, 5, 7 शेषफल बचता है।

- Ans** ✗ 1. 63
✓ 2. 72
✗ 3. 82
✗ 4. 53

Question ID : 264330155983

Option 1 ID : 264330611332

Option 2 ID : 264330611334

Option 3 ID : 264330611331

Option 4 ID : 264330611333

Status : Answered

Chosen Option : 2

Q.16 एक पुरुष और एक महिला को साथ मिलकर काम पूरा करने में 12 दिन लगते हैं। एक पुरुष अकेले उस काम को 15 दिनों में पूरा कर सकता है। एक महिला अकेले उस काम को कितने दिनों में पूरा कर सकती है?

- Ans** ✗ 1. 45 दिन
✗ 2. 12 दिन
✓ 3. 60 दिन
✗ 4. 30 दिन

Question ID : 264330156063

Option 1 ID : 264330611653

Option 2 ID : 264330611651

Option 3 ID : 264330611654

Option 4 ID : 264330611652

Status : Answered

Chosen Option : 3

Q.17 एक नाविक नाव चलाकर 6 घंटे में धारा के अनुकूल 36 km और धारा के प्रतिकूल 24 km की दूरी तय करता है। जब वह धारा के अनुकूल 24 km और धारा के प्रतिकूल 36 km की दूरी तय करता है तो नाविक को साढ़े 6 घंटे का समय लगता है। धारा की चाल कितनी है?

- Ans**
- 1. 3 km/h
 - 2. 1.5 km/h
 - 3. 2 km/h
 - 4. 4 km/h

Question ID : 264330154057
Option 1 ID : 264330603693
Option 2 ID : 264330603692
Option 3 ID : 264330603691
Option 4 ID : 264330603694
Status : Answered
Chosen Option : 3

Q.18 एक वस्तु को ₹1,980 में बेचने पर अर्जित प्रतिशत लाभ उसी वस्तु को ₹1,620 में बेचने पर हुई हानि के प्रतिशत के बराबर है। 15% लाभ अर्जित करने के लिए वस्तु को किस मूल्य पर बेचा जाना चाहिए?

- Ans**
- 1. ₹1,800
 - 2. ₹2,277
 - 3. ₹2,070
 - 4. ₹1,863

Question ID : 264330161979
Option 1 ID : 264330635246
Option 2 ID : 264330635244
Option 3 ID : 264330635243
Option 4 ID : 264330635245
Status : Answered
Chosen Option : 3

Q.19 एक गोले का पृष्ठीय क्षेत्रफल 5544 cm^2 है। यदि गोले की त्रिज्या दोगुनी कर दी जाए, तो नए गोले का पृष्ठीय क्षेत्रफल (cm^2 में) ज्ञात कीजिए।

- Ans**
- 1. 20,761
 - 2. 22,176
 - 3. 20,176
 - 4. 22,761

Question ID : 264330156018
Option 1 ID : 264330611471
Option 2 ID : 264330611474
Option 3 ID : 264330611473
Option 4 ID : 264330611472
Status : Answered
Chosen Option : 2

Q.20 A और B किसी काम को क्रमशः 9 और 18 दिनों में कर सकते हैं। वे साथ मिलकर काम करने लगते हैं। कुछ दिनों के बाद A ने काम छोड़ दिया और B ने शेष काम को 15 दिनों में पूरा किया। A ने कितने दिनों के बाद काम छोड़ा?

- Ans**
- 1. 2
 - 2. 4
 - 3. 1
 - 4. 3

Question ID : 264330156010
Option 1 ID : 264330611442
Option 2 ID : 264330611439
Option 3 ID : 264330611441
Option 4 ID : 264330611440
Status : Answered
Chosen Option : 3

Section : Reasoning Ability and Problem Solving

Q.1 नीचे दिए गए कथनों और निष्कर्षों को ध्यानपूर्वक पढ़िए। आपको मानना है कि दिए गए कथन सत्य हैं चाहे वे समान्यतः ज्ञात तथ्यों से अलग प्रतीत होते हों। आपको निश्चय करना है कि कौन-सा कौन-से निष्कर्ष तार्किक रूप से दिए गए कथनों के अनुसार है।

कथन: सभी बिस्तर, चादरें हैं। कुछ चादरें, मोटी हैं। कुछ मोटी, जूंस हैं।

निष्कर्ष I: सभी चादरें, बिस्तरें हैं।

निष्कर्ष II: कुछ मोटी, चादरें हैं।

- Ans**
- 1. केवल निष्कर्ष (I) कथनों के अनुसार है।
 - 2. दोनों निष्कर्ष (I) और (II) कथनों के अनुसार हैं।
 - 3. न तो निष्कर्ष (I) और न ही (II) कथनों के अनुसार है।
 - 4. केवल निष्कर्ष (II) कथनों के अनुसार है।

Question ID : 264330155900
Option 1 ID : 264330611003
Option 2 ID : 264330611006
Option 3 ID : 264330611005
Option 4 ID : 264330611004
Status : Answered
Chosen Option : 4

Q.2 यदि निम्नलिखित आकृति श्रृंखला को जारी रखना हो तो कौन-सी आकृति प्रश्न चिन्ह (?) के स्थान पर आनी चाहिए?

Z	O	K	B	U	Z	△	K	
B	U	L	K	O	L	△	Z	K
↑	△	U	↑	O	9	B	O	?

Ans

✗ 1.

B	△
U	Z
L	9
O	K

✗ 2.

B	O
△	9
L	K
Z	U

✗ 3.

B	A
△	O
L	9
Z	U

✓ 4.

B	U
△	K
L	9
Z	A

Question ID : 264330154751

Option 1 ID : 264330606468

Option 2 ID : 264330606467

Option 3 ID : 264330606470

Option 4 ID : 264330606469

Status : Answered

Chosen Option : 2

Q.3 अक्षरों के उस संयोजन को चुनिए जिसे दी गई श्रृंखला के रिक्त स्थानों में क्रमिक रूप से रखने पर श्रृंखला पूरी हो जाएगी।

J _ JJ _ _ JM _ _ MJ

Ans ✗ 1. MJJMM

✗ 2. JJMMJ

✗ 3. JMMJM

✓ 4. MMJJ

Question ID : 264330151649

Option 1 ID : 264330594223

Option 2 ID : 264330594226

Option 3 ID : 264330594224

Option 4 ID : 264330594225

Status : Answered

Chosen Option : 4

Q.4 यदि '+' और '-' को आपस में बदल दिया जाए और '-' और '+' को आपस में बदल दिया जाए तो निम्नलिखित समीकरण में '?' के स्थान पर क्या आएगा?
 $2 \times 4 - 1 + 6 + 8 = ?$

- Ans
- ✓ 1. -42
 - ✗ 2. -24
 - ✗ 3. -13
 - ✗ 4. -18

Question ID : 264330154660
Option 1 ID : 264330606105
Option 2 ID : 264330606104
Option 3 ID : 264330606103
Option 4 ID : 264330606106
Status : Answered
Chosen Option : 1

Q.5 यदि 6 जुलाई 2011 को बुधवार है, तो 16 फरवरी 2010 को सप्ताह का कौन-सा दिन होगा?

- Ans
- ✗ 1. सोमवार
 - ✗ 2. शनिवार
 - ✗ 3. गुरुवार
 - ✓ 4. मंगलवार

Question ID : 264330154353
Option 1 ID : 264330604876
Option 2 ID : 264330604878
Option 3 ID : 264330604877
Option 4 ID : 264330604875
Status : Answered
Chosen Option : 4

Q.6 दी गई श्रृंखला में प्रश्न चिन्ह '?' के स्थान पर क्या आना चाहिए?

10 19 ? 199 775 3079 12295

- Ans
- ✗ 1. 63
 - ✓ 2. 55
 - ✗ 3. 50
 - ✗ 4. 61

Question ID : 264330151445
Option 1 ID : 264330593410
Option 2 ID : 264330593408
Option 3 ID : 264330593407
Option 4 ID : 264330593409
Status : Answered
Chosen Option : 2

Q.7 सात व्यक्ति, S, T, U, V, W, X और Y एक सीधी पंक्ति में उत्तर की ओर मुख करके बैठे हैं। केवल दो व्यक्ति W के दाईं ओर बैठे हैं। केवल तीन व्यक्ति S और W के बीच में बैठे हैं। T और X का निकटतम पड़ोसी U है। X, W का निकटतम पड़ोसी नहीं है। V, T के दाईं ओर से तीसरे स्थान पर बैठा है। W और V के बीच में कौन बैठा है?

- Ans**
- 1. U
 - 2. T
 - 3. X
 - 4. Y

Question ID : 264330155546

Option 1 ID : 264330609589

Option 2 ID : 264330609588

Option 3 ID : 264330609590

Option 4 ID : 264330609587

Status : Answered

Chosen Option : 4

Q.8 अंग्रेजी वर्णमाला क्रम के आधार पर दी गई श्रृंखला में प्रश्न चिह्न (?) के स्थान पर क्या आना चाहिए?

JPX, GNU, DLR, AJO, ?

- Ans**
- 1. ZGL
 - 2. YGM
 - 3. XHL
 - 4. YIL

Question ID : 264330155787

Option 1 ID : 264330610554

Option 2 ID : 264330610552

Option 3 ID : 264330610551

Option 4 ID : 264330610553

Status : Answered

Chosen Option : 3

Q.9

उस विकल्प आकृति को चुनिए जिसमें दी गई आकृति (X) उसके भाग के रूप में निहित है। (घूर्णन की अनुमति नहीं है)



(X)

Ans

✗ 1.



✗ 2.



✗ 3.



✓ 4.



Question ID : 264330151726

Option 1 ID : 264330594531

Option 2 ID : 264330594534

Option 3 ID : 264330594533

Option 4 ID : 264330594532

Status : Answered

Chosen Option : 4

Q.10 एक निश्चित कूट भाषा में, 'DEAN' को '2458' लिखा जाता है और 'LEND' को '8352' लिखा जाता है। उसी कूट भाषा में 'L' को कैसे लिखा जाएगा?

- Ans
- 1. 8
 - 2. 2
 - 3. 5
 - 4. 3

Question ID : 264330151689
Option 1 ID : 264330594383
Option 2 ID : 264330594385
Option 3 ID : 264330594386
Option 4 ID : 264330594384
Status : Answered
Chosen Option : 4

Q.11 अंग्रेजी वर्णमाला क्रम के आधार पर दी गई श्रृंखला में प्रश्न चिह्न '?' के स्थान पर कौन-सा अक्षर-समूह आना चाहिए?

DJS, HNT, LRU, PVV, ?

- Ans
- 1. UTV
 - 2. SRV
 - 3. TZW
 - 4. USV

Question ID : 264330156298
Option 1 ID : 264330612593
Option 2 ID : 264330612591
Option 3 ID : 264330612592
Option 4 ID : 264330612594
Status : Answered
Chosen Option : 3

Q.12 दी गई श्रृंखला में प्रश्न चिह्न '?' के स्थान पर क्या आना चाहिए?

11 14 20 29 41 ?

- Ans
- 1. 61
 - 2. 64
 - 3. 54
 - 4. 56

Question ID : 264330151717
Option 1 ID : 264330594496
Option 2 ID : 264330594498
Option 3 ID : 264330594497
Option 4 ID : 264330594495
Status : Answered
Chosen Option : 4

Q.13 निम्नलिखित संख्या-युग्मों में, पहली संख्या पर कुछ गणितीय संक्रियाएँ करके दूसरी संख्या प्राप्त की जाती है। उस समुच्चय को चुनिए जिसमें संख्याएँ ठीक उसी प्रकार संबंधित हैं जिस प्रकार निम्नलिखित समुच्चयों की संख्याएँ संबंधित हैं।
(ध्यान दें: संख्याओं को उनके घटक अंकों में अलग-अलग किए बिना, पूर्ण संख्याओं पर संक्रियाएँ की जानी चाहिए। उदा. 13 - संख्या 13 पर संक्रियाएँ जैसे 13 को जोड़ना, घटाना, गुणा करना आदि किया जा सकता है। 13 को 1 और 3 में अलग-अलग करने की ओर फिर 1 और 3 पर गणितीय संक्रियाएँ करने की अनुमति नहीं है।)
16 : 95
6 : 35

- Ans**
- 1. 17 : 23
 - 2. 2 : 13
 - 3. 8 : 48
 - 4. 13 : 77

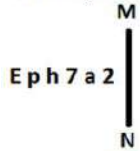
Question ID : 264330154653
Option 1 ID : 264330606075
Option 2 ID : 264330606076
Option 3 ID : 264330606077
Option 4 ID : 264330606078
Status : Answered
Chosen Option : 4

Q.14 HM 12, FK 17 से एक निश्चित प्रकार से संबंधित है। उसी प्रकार, EK 18, CI 23 से संबंधित है। समान तर्क का अनुसरण करते हुए GU 14 निम्नलिखित में से किससे संबंधित है?

- Ans**
- 1. FS 19
 - 2. IW 20
 - 3. ER 18
 - 4. ES 19

Question ID : 264330151683
Option 1 ID : 264330594362
Option 2 ID : 264330594360
Option 3 ID : 264330594361
Option 4 ID : 264330594359
Status : Answered
Chosen Option : 4

Q.15 दी गई आकृति के उस सही दर्पण प्रतिबिंब को चुनिए, जो नीचे दर्शाए गए अनुसार दर्पण को MN पर रखने पर बनेगा।



- Ans**
- 1. Eph7a2
 - 2. Eph7a2
 - 3. Eph7a2
 - 4. Eph7a2

Question ID : 264330151509
Option 1 ID : 264330593664
Option 2 ID : 264330593665
Option 3 ID : 264330593663
Option 4 ID : 264330593666
Status : Answered
Chosen Option : 2

Q.16 नीचे दिए गए कथनों और निष्कर्षों को ध्यानपूर्वक पढ़िए। आपको मानना है कि दिए गए कथन सत्य हैं चाहे वे समान्यतः ज्ञात तथ्यों से अलग प्रतीत होते हों। आपको निश्चय करना है कि कौन-सा/कौन-से निष्कर्ष तार्किक रूप से दिए गए कथनों के अनुसार है/हैं।

कथन: कुछ तस्वीरें, फूलदान हैं। सभी फूलदान, लंबे हैं। कुछ लंबे, इमारतें हैं।

निष्कर्ष I: कुछ तस्वीरें, इमारतें हैं।

निष्कर्ष II: सभी लंबे, फूलदान हैं।

- Ans**
- 1. दोनों निष्कर्ष (I) और (II) कथनों के अनुसार हैं।
 - 2. न तो निष्कर्ष (I) और न ही (II) कथनों के अनुसार है।
 - 3. केवल निष्कर्ष (I) कथनों के अनुसार है।
 - 4. केवल निष्कर्ष (II) कथनों के अनुसार है।

Question ID : 264330155915

Option 1 ID : 264330611066

Option 2 ID : 264330611065

Option 3 ID : 264330611063

Option 4 ID : 264330611064

Status : Answered

Chosen Option : 2

Q.17 दी गई श्रृंखला में प्रश्न चिन्ह '?' के स्थान पर क्या आना चाहिए?

7 41 177 721 2897 ?

- Ans**
- 1. 11601
 - 2. 12589
 - 3. 11283
 - 4. 10631

Question ID : 264330151462

Option 1 ID : 264330593477

Option 2 ID : 264330593478

Option 3 ID : 264330593476

Option 4 ID : 264330593475

Status : Answered

Chosen Option : 1

Q.18 एक निश्चित कूट भाषा में, 'LED' को '15-22-23' लिखा जाता है और 'BMW' को '25-14-4' लिखा जाता है। उस कूट भाषा में 'QUF' को कैसे लिखा जाएगा?

- Ans**
- 1. 11-5-20
 - 2. 9-5-20
 - 3. 9-4-21
 - 4. 10-6-21

Question ID : 264330155818

Option 1 ID : 264330610676

Option 2 ID : 264330610677

Option 3 ID : 264330610675

Option 4 ID : 264330610678

Status : Answered

Chosen Option : 4

Q.19 उस समुच्चय को चुनिए जिसमें संख्याएँ ठीक उसी प्रकार संबंधित हैं जिस प्रकार निम्नलिखित समुच्चयों की संख्याएँ संबंधित हैं।

(ध्यान दें: संख्याओं को उनके घटक अंकों में अलग-अलग किए बिना, पूर्ण संख्याओं पर संक्रियाएँ की जानी चाहिए। उदा. 13 – संख्या 13 पर संक्रियाएँ जैसे 13 को जोड़ना/घटाना/गुणा करना आदि किया जा सकता है। 13 को 1 और 3 में अलग-अलग करने की और फिर 1 और 3 पर गणितीय संक्रियाएँ करने की अनुमति नहीं है।)

(5, 35, 7)

(9, 27, 3)

Ans 1. 6, 17, 9

2. 4, 10, 5

3. 16, 50, 7

4. 6, 42, 7

Question ID : 264330151608

Option 1 ID : 264330594062

Option 2 ID : 264330594059

Option 3 ID : 264330594061

Option 4 ID : 264330594060

Status : Answered

Chosen Option : 4

Q.20 यदि 121×11 और $7 - 15 + 23$ को आपस में बदल दिया जाए तथा 121×11 और $7 - 15 + 23$ को आपस में बदल दिया जाए तो निम्नलिखित समीकरण में (?) के स्थान पर क्या आएगा?

$121 \times 11 \div 7 - 15 + 23 = ?$

Ans 1. 59

2. 79

3. 49

4. 69

Question ID : 264330155675

Option 1 ID : 264330610104

Option 2 ID : 264330610105

Option 3 ID : 264330610106

Option 4 ID : 264330610103

Status : Answered

Chosen Option : 4

Section : General Awareness

Q.1 निम्नलिखित में से कौन-सा भारत के महान्यायवादी का कर्तव्य है?

Ans 1. अंतर्राष्ट्रीय संस्थाओं में भारत का प्रतिनिधित्व करना

2. कानूनी मामलों पर भारत सरकार को सलाह देना

3. राज्य सरकार को सलाह देना

4. उच्चतम न्यायालय में न्यायाधीश के रूप में कार्य करना

Question ID : 264330161286

Option 1 ID : 264330632474

Option 2 ID : 264330632472

Option 3 ID : 264330632471

Option 4 ID : 264330632473

Status : Answered

Chosen Option : 2

Q.2 घेंघा रोग में किस ग्रन्थि के आकार में वृद्धि हो जाने के कारण गले के अगले भाग में सूजन आ जाती है?

- Ans
- 1. अधिवक्क ग्रन्थि
 - 2. पीयूष ग्रन्थि
 - 3. थाइरॉइड ग्रन्थि
 - 4. पिनियल ग्रन्थि

Question ID : 264330161073

Option 1 ID : 264330631623

Option 2 ID : 264330631625

Option 3 ID : 264330631626

Option 4 ID : 264330631624

Status : Answered

Chosen Option : 3

Q.3 निम्नलिखित में से कौन कथक केंद्र के निदेशक थे और उन्होंने 'कलाश्रम' नाम से अपना स्वयं का नृत्य विद्यालय भी शुरू किया था?

- Ans
- 1. पंडित शंभू महाराज
 - 2. पंडित अच्छन महाराज
 - 3. पंडित बिरजू महाराज
 - 4. पंडित लच्छू महाराज

Question ID : 264330155476

Option 1 ID : 264330609308

Option 2 ID : 264330609310

Option 3 ID : 264330609307

Option 4 ID : 264330609309

Status : Answered

Chosen Option : 3

Q.4 झारखंड में मवेशियों के सम्मान में _____ दिवाली के तुरंत बाद अमावस्या के अगले दिन मनाया जाता है।

- Ans
- 1. मकर (Makar)
 - 2. सोहराय (Sohrai)
 - 3. रोहिणी (Rohini)
 - 4. भगता परब (Bhagta Parab)

Question ID : 264330160837

Option 1 ID : 264330630680

Option 2 ID : 264330630679

Option 3 ID : 264330630682

Option 4 ID : 264330630681

Status : Answered

Chosen Option : 2

Q.5 भारत सरकार की दीन दयाल उपाध्याय ग्रामीण कौशल्य योजना (DDU-GKY) योजना के अंतर्गत जनसंख्या का कौन-सा आयु वर्ग शामिल है?

- Ans
- 1. 30 से 60 वर्ष
 - 2. 25 से 60 वर्ष
 - 3. 15 से 35 वर्ष
 - 4. 14 से 40 वर्ष

Question ID : 264330161576
Option 1 ID : 264330633631
Option 2 ID : 264330633632
Option 3 ID : 264330633633
Option 4 ID : 264330633634
Status : Not Answered
Chosen Option : --

Q.6 2023 का आईपीएल फाइनल मैच निम्नलिखित में से किस शहर में आयोजित किया गया था?

- Ans
- 1. मुंबई
 - 2. अहमदाबाद
 - 3. चेन्नई
 - 4. कोलकाता

Question ID : 264330161148
Option 1 ID : 264330631926
Option 2 ID : 264330631923
Option 3 ID : 264330631924
Option 4 ID : 264330631925
Status : Answered
Chosen Option : 2

Q.7 भारत के निम्नलिखित में से किस राज्य में गर्मी के मौसम में 'लू' हवा नहीं चलती है?

- Ans
- 1. पंजाब
 - 2. राजस्थान
 - 3. हरियाणा
 - 4. गोवा

Question ID : 264330161520
Option 1 ID : 264330633408
Option 2 ID : 264330633407
Option 3 ID : 264330633409
Option 4 ID : 264330633410
Status : Answered
Chosen Option : 4

Q.8 बजट घाटा क्या है?

- Ans
- 1. रक्षा व्यय के लिए आवंटित धनराशि
 - 2. व्यय पर सरकारी राजस्व की अधिकता
 - 3. राजस्व पर सरकारी व्यय की अधिकता
 - 4. समाज कल्याण कार्यक्रमों के लिए आवंटित धनराशि

Question ID : 264330157271
Option 1 ID : 264330616449
Option 2 ID : 264330616447
Option 3 ID : 264330616448
Option 4 ID : 264330616450
Status : Answered
Chosen Option : 3

Q.9 किस भारतीय संगीतकार ने 1994 में राय कूडर के साथ 'ए मीटिंग बाय द रिवर' (A Meeting by The River) के लिए ग्रैमी पुरस्कार जीता था?

- Ans
- ✓ 1. विश्व मोहन भट्ट
 - ✗ 2. रविशंकर
 - ✗ 3. हरिप्रसाद चौरसिया
 - ✗ 4. जाकिर हुसैन

Question ID : 264330155471
Option 1 ID : 264330609288
Option 2 ID : 264330609289
Option 3 ID : 264330609290
Option 4 ID : 264330609287
Status : Answered
Chosen Option : 1

Q.10 किस नृत्य के ठीक शुरू किए जाने से पहले सेवाकली (sevakali) नामक एक अभ्यास सत्र किया जाता था, जो एक मंदिर के परिसर में किया गया था?

- Ans
- ✗ 1. कथक
 - ✗ 2. ओडिसी
 - ✗ 3. कुचिपुड़ी
 - ✓ 4. कथकली

Question ID : 264330159054
Option 1 ID : 264330623576
Option 2 ID : 264330623575
Option 3 ID : 264330623578
Option 4 ID : 264330623577
Status : Answered
Chosen Option : 4

Q.11 यदि एक ईट पर 7 N बल लगाया जाए और वह 5 m तक गति करती है, तो किया गया कार्य कितना होगा?

- Ans
- ✗ 1. 35 Erg
 - ✗ 2. 40 J
 - ✗ 3. 25 J
 - ✓ 4. 35 J

Question ID : 264330156582
Option 1 ID : 264330613717
Option 2 ID : 264330613718
Option 3 ID : 264330613715
Option 4 ID : 264330613716
Status : Answered
Chosen Option : 4

Q.12 राजस्व व्यय क्या है?

- Ans
- 1. ऋण चुकाने पर व्यय की गई धनराशि
 - 2. परिसंपत्तियों को खरीदने पर व्यय की गई धनराशि
 - 3. सड़कों के निर्माण पर व्यय की गई धनराशि
 - 4. दिन-प्रतिदिन के सरकारी कार्यों पर व्यय की गई धनराशि

Question ID : 264330157273

Option 1 ID : 264330616457

Option 2 ID : 264330616455

Option 3 ID : 264330616456

Option 4 ID : 264330616458

Status : Answered

Chosen Option : 4

Q.13 पवित्र पर्वत 'कैलाश' भारत के किस पड़ोसी देश में स्थित है?

- Ans
- 1. बांग्लादेश
 - 2. चीन
 - 3. पाकिस्तान
 - 4. अफ़ग़ानिस्तान

Question ID : 264330161562

Option 1 ID : 264330633578

Option 2 ID : 264330633575

Option 3 ID : 264330633576

Option 4 ID : 264330633577

Status : Answered

Chosen Option : 1

Q.14 नौजवान भारत सभा के संस्थापक कौन थे?

- Ans
- 1. अजीत सिंह
 - 2. लाला लाजपत राय
 - 3. चंद्रशेखर आजाद
 - 4. भगत सिंह

Question ID : 264330162332

Option 1 ID : 264330636655

Option 2 ID : 264330636656

Option 3 ID : 264330636657

Option 4 ID : 264330636658

Status : Answered

Chosen Option : 3

Q.15 'माई स्टोरी (My Story)' किस महिला लेखिका की आत्मकथा है?

- Ans
- 1. प्रतिभा रे
 - 2. अमृता प्रीतम
 - 3. कमला दास
 - 4. आशापूर्णा देवी

Question ID : 264330160964

Option 1 ID : 264330631189

Option 2 ID : 264330631188

Option 3 ID : 264330631187

Option 4 ID : 264330631190

Status : Answered

Chosen Option : 2

Q.16 निम्नलिखित में से कौन-सा मौलिक कर्तव्यों के अंतर्गत नहीं आता है?

- Ans 1. राष्ट्रगान का सम्मान करना
 2. कर का भुगतान करना
 3. सद्भाव को बढ़ावा देना
 4. वैज्ञानिक दृष्टिकोण विकसित करना

Question ID : 264330159899
Option 1 ID : 264330626944
Option 2 ID : 264330626943
Option 3 ID : 264330626945
Option 4 ID : 264330626946
Status : Answered
Chosen Option : 2

Q.17 भित्तारी मंदिर (Bhitari temple) किस राज्य में स्थित है?

- Ans 1. झारखंड
 2. बिहार
 3. उत्तरप्रदेश
 4. ओडिशा

Question ID : 264330160780
Option 1 ID : 264330630452
Option 2 ID : 264330630454
Option 3 ID : 264330630453
Option 4 ID : 264330630451
Status : Answered
Chosen Option : 4

Q.18 _____ के सिद्धियों की सांस्कृतिक विरासत लगभग 300 वर्ष पुरानी है और उनका सिद्धि धमाल नृत्य (Siddhi Dhamal dance) एक उत्कृष्ट कला शैली है।

- Ans 1. गुजरात
 2. उत्तरप्रदेश
 3. मध्यप्रदेश
 4. राजस्थान

Question ID : 264330160795
Option 1 ID : 264330630511
Option 2 ID : 264330630514
Option 3 ID : 264330630513
Option 4 ID : 264330630512
Status : Answered
Chosen Option : 2

Q.19 निम्नलिखित में से किस स्थान पर मानसून के मौसम के दौरान सबसे कम वर्षा होती है?

- Ans
- 1. मेघालय
 - 2. लेह
 - 3. असम
 - 4. केरल

Question ID : 264330157827
Option 1 ID : 264330618670
Option 2 ID : 264330618669
Option 3 ID : 264330618668
Option 4 ID : 264330618667
Status : Answered
Chosen Option : 1

Q.20 निम्नलिखित में से किस संस्थान ने खेले इंडिया यूनिवर्सिटी गेम्स के तीसरे संस्करण में अधिकतम पदक जीते?

- Ans
- 1. यूनिवर्सिटी ऑफ केरला
 - 2. गुरु नानक देव यूनिवर्सिटी
 - 3. पंजाब यूनिवर्सिटी
 - 4. जैन यूनिवर्सिटी

Question ID : 264330161134
Option 1 ID : 264330631869
Option 2 ID : 264330631868
Option 3 ID : 264330631870
Option 4 ID : 264330631867
Status : Answered
Chosen Option : 3

Q.21 अखिल भारतीय मुस्लिम लीग ने किस वर्ष देश के उत्तर-पश्चिमी और पूर्वी क्षेत्रों में मुसलमानों के लिए 'स्वतंत्र राज्य' की मांग का प्रस्ताव पेश किया था?

- Ans
- 1. 1942
 - 2. 1939
 - 3. 1941
 - 4. 1940

Question ID : 264330161740
Option 1 ID : 264330634290
Option 2 ID : 264330634287
Option 3 ID : 264330634289
Option 4 ID : 264330634288
Status : Answered
Chosen Option : 2

Q.22 निम्नलिखित में से कौन-सा उपन्यास मुल्क राज आनंद द्वारा नहीं लिखा गया है?

Ans ✓ 1. द गाइड (The Guide)

✗ 2. कुली (Coolie)

✗ 3.

प्राइवेट लाइफ ऑफ एन इंडियन प्रिंस (Private Life of an Indian Prince)

✗ 4. द स्वोर्ड एंड द सिकल (The Sword and the Sickle)

Question ID : 264330155499

Option 1 ID : 264330609401

Option 2 ID : 264330609399

Option 3 ID : 264330609402

Option 4 ID : 264330609400

Status : Not Answered

Chosen Option : --

Q.23 शुभमन गिल अपने खेल में रिकॉर्ड बनाने की वजह से चर्चा में थे। वह कौन-सा खेल खेलते हैं?

Ans ✓ 1. क्रिकेट

✗ 2. हॉकी

✗ 3. बैडमिंटन

✗ 4. शतरंज

Question ID : 264330158354

Option 1 ID : 264330620777

Option 2 ID : 264330620776

Option 3 ID : 264330620775

Option 4 ID : 264330620778

Status : Answered

Chosen Option : 1

Q.24 निम्नलिखित में से कौन एक विश्व प्रसिद्ध 'सितार' वादक है?

Ans ✗ 1. उस्ताद शफात अहमद खान (Ustad Shafaat Ahmed Khan)

✗ 2. राजरतनम पिल्लई (Rajaratanam Pillai)

✓ 3. पंडित रविशंकर (Pandit Ravi Shankar)

✗ 4. अली अहमद हुसैन (Ali Ahmad Hussain)

Question ID : 264330155509

Option 1 ID : 264330609439

Option 2 ID : 264330609441

Option 3 ID : 264330609442

Option 4 ID : 264330609440

Status : Answered

Chosen Option : 2

Q.25 वन्य जीवन (संरक्षण) संशोधन अधिनियम, 2022 वन्य जीवों और वनस्पतियों की लुप्तप्राय प्रजातियों में अंतर्राष्ट्रीय व्यापार पर कन्वेंशन (Convention on International Trade in Endangered Species of Wild Fauna and Flora - CITES) को लागू करने का प्रयास करता है। CITES के संबंध में निम्नलिखित में से कौन-सा कथन सही है?

1. CITES सरकारों के बीच एक समझौता है जो यह सुनिश्चित करता है कि जंगली जानवरों और पौधों के नमूनों के अंतर्राष्ट्रीय व्यापार से प्रजातियों के अस्तित्व को खतरा न हो।
2. CITES के तहत, पौधों और जानवरों के नमूनों को उनके विलुप्त होने के खतरे के आधार पर पांच श्रेणियों में वर्गीकृत किया गया है।
3. कन्वेंशन के तहत देशों को परमिट के माध्यम से सभी सूचीबद्ध नमूनों के व्यापार को विनियमित करना आवश्यक है।
4. यह जीवित जीवों के नमूनों के स्वायत्तीकरण को विनियमित करने का भी प्रयास करता है।

- Ans
- 1. 1, 2 और 3
 - 2. 2, 3 और 4
 - 3. 1, 2 और 4
 - 4. 1, 3 और 4

Question ID : 264330161413

Option 1 ID : 264330632979

Option 2 ID : 264330632981

Option 3 ID : 264330632982

Option 4 ID : 264330632980

Status : Answered

Chosen Option : 4

Section : English Language and Comprehension

Q.1 The following sentence has been split into four segments. Identify the segment that contains an error.

He told me / that he goes / to the market / to buy a laptop.

- Ans
- 1. that he goes
 - 2. to buy a laptop
 - 3. to the market
 - 4. He told me

Question ID : 264330151288

Option 1 ID : 264330592788

Option 2 ID : 264330592790

Option 3 ID : 264330592789

Option 4 ID : 264330592787

Status : Answered

Chosen Option : 1

Q.2 Select the most appropriate option that can substitute the underlined segment in the given sentence.

His older brothers were quite willing that he should went to sea.

- Ans
- 1. go to
 - 2. had go to
 - 3. gone to
 - 4. have gone in

Question ID : 264330153486

Option 1 ID : 264330601459

Option 2 ID : 264330601461

Option 3 ID : 264330601460

Option 4 ID : 264330601462

Status : Answered

Chosen Option : 1

Q.3 Select the most appropriate option to fill in the blank.
The tigress that was killed by the villagers was not only a man-eater, _____ a mother.

- Ans 1. but also
 2. but
 3. but often
 4. and

Question ID : 264330152635
Option 1 ID : 264330598143
Option 2 ID : 264330598145
Option 3 ID : 264330598146
Option 4 ID : 264330598144
Status : Answered
Chosen Option : 1

Q.4 Parts of the following sentence have been underlined and given as options. Select the option that contains a misspelt word.
A piano teacher described an interesting encountar she had with a young lady who came to inquire about music lessons.

- Ans 1. interesting
 2. inquire
 3. piano
 4. encountar

Question ID : 264330151834
Option 1 ID : 264330594964
Option 2 ID : 264330594966
Option 3 ID : 264330594963
Option 4 ID : 264330594965
Status : Answered
Chosen Option : 4

Q.5 Select the most appropriate option that can substitute the underlined segment in the given sentence. If there is no need to substitute it, select 'No improvement required'.
It is true that learning English is essential for professionals to survived the national and international competitions.

- Ans 1. to be survive
 2. for surviving
 3. No improvement required
 4. having to survive

Question ID : 264330153536
Option 1 ID : 264330601647
Option 2 ID : 264330601648
Option 3 ID : 264330601650
Option 4 ID : 264330601649
Status : Answered
Chosen Option : 2

Q.6 Select the most appropriate meaning of the underlined idiom.
The police inspector knows the ins and outs of the murder case.

- Ans
- 1. laws
 - 2. all the witnesses
 - 3. lawyers and judges
 - 4. full details

Question ID : 264330152753
Option 1 ID : 264330598613
Option 2 ID : 264330598611
Option 3 ID : 264330598614
Option 4 ID : 264330598612
Status : Answered
Chosen Option : 4

Q.7 Select the most appropriate option that can substitute the underlined word in the following sentence.
The energetic kitten is playful after having his breakfast.

- Ans
- 1. its
 - 2. it
 - 3. it's
 - 4. it is

Question ID : 264330152575
Option 1 ID : 264330597903
Option 2 ID : 264330597904
Option 3 ID : 264330597905
Option 4 ID : 264330597906
Status : Answered
Chosen Option : 1

Q.8 Four words of the following sentence have been underlined and given as options.
Select the option that contains a spelling error.
Ozone is a reactiev gas that is not only important in protecting us from harmful ultraviolet radiation but is also a greenhouse gas and, at high smog-level concentrations, harmful to human health and vegetation.

- Ans
- 1. radiation
 - 2. reactiev
 - 3. concentrations
 - 4. vegetation

Question ID : 264330151931
Option 1 ID : 264330595340
Option 2 ID : 264330595339
Option 3 ID : 264330595341
Option 4 ID : 264330595342
Status : Answered
Chosen Option : 2

Q.9 Select the most appropriate option that can substitute the underlined segment in the given sentence. If there is no need to substitute it, select 'No substitution required'.
Many great people born in that small village.

- Ans
- 1. was born
 - 2. were born
 - 3. is born
 - 4. No substitution required

Question ID : 264330152729
Option 1 ID : 264330598516
Option 2 ID : 264330598517
Option 3 ID : 264330598515
Option 4 ID : 264330598518
Status : Answered
Chosen Option : 2

Q.10 Select the most appropriate meaning of the given idiom.

Call it a day

- Ans
- 1. To be very straightforward
 - 2. To stop working
 - 3. To have the greatest day ever
 - 4. To refer to something as something else

Question ID : 264330153014
Option 1 ID : 264330599630
Option 2 ID : 264330599628
Option 3 ID : 264330599627
Option 4 ID : 264330599629
Status : Answered
Chosen Option : 2

Q.11 Select the most appropriate ANTONYM of the given word.
Empathetic

- Ans
- 1. Merciless
 - 2. Frustrated
 - 3. Charismatic
 - 4. Lonely

Question ID : 264330151915
Option 1 ID : 264330595277
Option 2 ID : 264330595278
Option 3 ID : 264330595275
Option 4 ID : 264330595276
Status : Answered
Chosen Option : 3

Q.12 The sentence given below has spelling errors. Select the sentence without spelling errors.

We can also contribute to preservation of water bodies by not dumping our garbage in them.

- Ans
- 1. We can also contribut to presarvation of water bodies by not dumping our garbage in them.
 - 2. We can also contribute to presarvation of water bodies by not dumpeing our garbage in them.
 - 3. We can also contribute to preservation of water bodies by not dumping our garbage in them.
 - 4. We can also contribute to presarvation of water bodies by not dumping our garbag in them.

Question ID : 264330151840

Option 1 ID : 264330594987

Option 2 ID : 264330594989

Option 3 ID : 264330594988

Option 4 ID : 264330594990

Status : Answered

Chosen Option : 3

Q.13 Parts of the following sentence have been given as options. Select the option that contains an error.

A soothe voice must convey both confidence and intimacy, qualities which can be attributed to a few key components.

- Ans
- 1. which can be
 - 2. few key components
 - 3. convey both confidence
 - 4. A soothe voice

Question ID : 264330153615

Option 1 ID : 264330601945

Option 2 ID : 264330601946

Option 3 ID : 264330601944

Option 4 ID : 264330601943

Status : Answered

Chosen Option : 4

Q.14 The given sentence contains an error. Select the option that correctly rectifies the error.

He was carefulest while stealing the crown jewels.

- Ans
- 1. He was more careful while stealing the crown jewels.
 - 2. He was most careful while stealing the crown jewels.
 - 3. He was carefuller while stealing the crown jewels.
 - 4. He was most carefuller while stealing the crown jewels.

Question ID : 264330152610

Option 1 ID : 264330598044

Option 2 ID : 264330598045

Option 3 ID : 264330598043

Option 4 ID : 264330598046

Status : Answered

Chosen Option : 2

Q.15 Select the most appropriate synonym of the given word.
Hesitate

- Ans 1. Conceal
 2. Recoil
 3. Blabber
 4. Falter

Question ID : 264330151878
Option 1 ID : 264330595132
Option 2 ID : 264330595131
Option 3 ID : 264330595133
Option 4 ID : 264330595134
Status : Answered
Chosen Option : 4

Q.16 The following sentence has been split into four segments. Identify the segment that contains a grammatical error.
It is commonly believed / that Democracy is / the best form / of the government.

- Ans 1. It is commonly believed
 2. that Democracy is
 3. of the government
 4. the best form

Question ID : 264330153167
Option 1 ID : 264330600227
Option 2 ID : 264330600228
Option 3 ID : 264330600230
Option 4 ID : 264330600229
Status : Answered
Chosen Option : 1

Q.17 Select the most appropriate meaning of the underlined idiom.

The executives were running around in circles, without any success.

- Ans 1. Suffering huge profits and losses
 2. Achieving maximum mileage
 3. Successfully accomplishing the target
 4. Putting efforts into something that does not give a worthwhile result

Question ID : 264330153143
Option 1 ID : 264330600134
Option 2 ID : 264330600133
Option 3 ID : 264330600132
Option 4 ID : 264330600131
Status : Answered
Chosen Option : 4

Q.18 Select the most appropriate meaning of the given idiom.
Spill the beans

- Ans**
- 1. Behave or speak in a rash manner
 - 2. Things always get worse
 - 3. To reveal a secret information unintentionally
 - 4. Excellent health

Question ID : 264330153281
Option 1 ID : 264330600681
Option 2 ID : 264330600682
Option 3 ID : 264330600679
Option 4 ID : 264330600680
Status : Answered
Chosen Option : 4

Q.19 Select the most appropriate ANTONYM of the given word.
Stern

- Ans**
- 1. Stable
 - 2. Lenient
 - 3. Profound
 - 4. Sincere

Question ID : 264330152678
Option 1 ID : 264330598318
Option 2 ID : 264330598317
Option 3 ID : 264330598315
Option 4 ID : 264330598316
Status : Answered
Chosen Option : 2

Q.20 Select the most appropriate option that can substitute the underlined segment in the given sentence.
He said that I have finished my work.

- Ans**
- 1. he had finished his work
 - 2. he was finished his work
 - 3. he has finished his work
 - 4. I had finished my work

Question ID : 264330152707
Option 1 ID : 264330598429
Option 2 ID : 264330598427
Option 3 ID : 264330598430
Option 4 ID : 264330598428
Status : Answered
Chosen Option : 3

Comprehension:

In the following passage, some words have been deleted. Read the passage carefully and select the most appropriate option to fill in each blank.

Photosynthesis is the _____(1) used by plants, algae and some bacteria to turn sunlight into energy. The process chemically _____(2) carbon dioxide and water into food and oxygen. The chemical reaction often _____(3) on a pigment called chlorophyll, which gives plants their green colour. Photosynthesis is also the _____(4) our planet is blanketed in an oxygen-rich atmosphere. Plants absorb carbon dioxide from the _____(5) air and release water and oxygen via microscopic pores on their leaves called stomata.

SubQuestion No : 21

Q.21 Select the most appropriate option to fill in blank number 1.

- Ans
- 1. chaos
 - 2. guess
 - 3. process
 - 4. area

Question ID : 264330153499

Option 1 ID : 264330601510

Option 2 ID : 264330601509

Option 3 ID : 264330601507

Option 4 ID : 264330601508

Status : Answered

Chosen Option : 3

Comprehension:

In the following passage, some words have been deleted. Read the passage carefully and select the most appropriate option to fill in each blank.

Photosynthesis is the _____(1) used by plants, algae and some bacteria to turn sunlight into energy. The process chemically _____(2) carbon dioxide and water into food and oxygen. The chemical reaction often _____(3) on a pigment called chlorophyll, which gives plants their green colour. Photosynthesis is also the _____(4) our planet is blanketed in an oxygen-rich atmosphere. Plants absorb carbon dioxide from the _____(5) air and release water and oxygen via microscopic pores on their leaves called stomata.

SubQuestion No : 22

Q.22 Select the most appropriate option to fill in blank number 2.

- Ans
- 1. crates
 - 2. exceeds
 - 3. bows
 - 4. converts

Question ID : 264330153500

Option 1 ID : 264330601513

Option 2 ID : 264330601512

Option 3 ID : 264330601511

Option 4 ID : 264330601514

Status : Answered

Chosen Option : 4

Comprehension:

In the following passage, some words have been deleted. Read the passage carefully and select the most appropriate option to fill in each blank.

Photosynthesis is the _____(1) used by plants, algae and some bacteria to turn sunlight into energy. The process chemically _____(2) carbon dioxide and water into food and oxygen. The chemical reaction often _____(3) on a pigment called chlorophyll, which gives plants their green colour. Photosynthesis is also the _____(4) our planet is blanketed in an oxygen-rich atmosphere. Plants absorb carbon dioxide from the _____(5) air and release water and oxygen via microscopic pores on their leaves called stomata.

SubQuestion No : 23

Q.23 Select the most appropriate option to fill in blank number 3.

- Ans
- 1. wants
 - 2. hopes
 - 3. creates
 - 4. relies

Question ID : 264330153501

Option 1 ID : 264330601516

Option 2 ID : 264330601515

Option 3 ID : 264330601518

Option 4 ID : 264330601517

Status : Answered

Chosen Option : 4

Comprehension:

In the following passage, some words have been deleted. Read the passage carefully and select the most appropriate option to fill in each blank.

Photosynthesis is the _____(1) used by plants, algae and some bacteria to turn sunlight into energy. The process chemically _____(2) carbon dioxide and water into food and oxygen. The chemical reaction often _____(3) on a pigment called chlorophyll, which gives plants their green colour. Photosynthesis is also the _____(4) our planet is blanketed in an oxygen-rich atmosphere. Plants absorb carbon dioxide from the _____(5) air and release water and oxygen via microscopic pores on their leaves called stomata.

SubQuestion No : 24

Q.24 Select the most appropriate option to fill in blank number 4.

- Ans
- 1. reason
 - 2. occasion
 - 3. goal
 - 4. sense

Question ID : 264330153502

Option 1 ID : 264330601520

Option 2 ID : 264330601521

Option 3 ID : 264330601522

Option 4 ID : 264330601519

Status : Answered

Chosen Option : 1

Comprehension:

In the following passage, some words have been deleted. Read the passage carefully and select the most appropriate option to fill in each blank.

Photosynthesis is the _____(1) used by plants, algae and some bacteria to turn sunlight into energy. The process chemically _____(2) carbon dioxide and water into food and oxygen. The chemical reaction often _____(3) on a pigment called chlorophyll, which gives plants their green colour. Photosynthesis is also the _____(4) our planet is blanketed in an oxygen-rich atmosphere. Plants absorb carbon dioxide from the _____(5) air and release water and oxygen via microscopic pores on their leaves called stomata.

SubQuestion No : 25

Q.25 Select the most appropriate option to fill in blank number 5.

Ans 1. close

2. surrounding

3. afar

4. distant

Question ID : 264330153503

Option 1 ID : 264330601526

Option 2 ID : 264330601524

Option 3 ID : 264330601525

Option 4 ID : 264330601523

Status : Answered

Chosen Option : 2

KD Job Update

Multi Tasking Non Technical Staff and Havaladar CBIC and CBN Examination 2023

Roll Number	KD Job Updates
Candidate Name	KD Job Updates
Venue Name	iON Digital Zone iDZ Kumbalgodu
Exam Date	04/09/2023
Exam Time	9:00 AM - 11:00 AM
Subject	MTS Non Tech Havaladar CBIC and CBN Examination 2023

Section : Numerical and Mathematical Ability

Q.1 एक उत्पादक अपने उत्पादों को एक थोक व्यापारी को बेचने पर 10% का लाभ अर्जित करता है। थोक व्यापारी इसे खुदरा विक्रेता को बेचकर 15% का लाभ अर्जित करता है। खुदरा विक्रेता इन्हें बेचकर ग्राहक से 25% का लाभ अर्जित करता है। एक वस्तु के उत्पादन की वास्तविक लागत क्या है जिसके लिए ग्राहक ₹12,650 का भुगतान करता है?

- Ans**
- ✓ 1. ₹8,000
 - ✗ 2. ₹9,000
 - ✗ 3. ₹7,000
 - ✗ 4. ₹8,500

Question ID : 264330154123

Option 1 ID : 264330603956

Option 2 ID : 264330603958

Option 3 ID : 264330603955

Option 4 ID : 264330603957

Status : Answered

Chosen Option : 1

Q.2 200 m और 325 m लंबी दो रेलगाड़ियां समानांतर पटरियों पर क्रमशः 78 km/h और 60 km/h की चाल से चल रही हैं। यदि वे एक ही दिशा में चल रही हों तो तेज़ रेलगाड़ी धीमी रेलगाड़ी को कितने समय (सेकंड में) में पार करेगी ?

- Ans**
- ✗ 1. 115
 - ✗ 2. 100
 - ✗ 3. 110
 - ✓ 4. 105

Question ID : 264330156233

Option 1 ID : 264330612334

Option 2 ID : 264330612331

Option 3 ID : 264330612333

Option 4 ID : 264330612332

Status : Answered

Chosen Option : 4

Q.3 तीन मापने वाले टेप क्रमशः 64 cm, 72 cm और 96 cm लंबे हैं। वह सबसे कम लंबाई क्या है जिसे इनमें से किसी भी टेप द्वारा सटीक रूप से (cm में) मापा जा सकता है?

- Ans** ✓ 1. 576
✗ 2. 575
✗ 3. 570
✗ 4. 525

Question ID : 264330155984
Option 1 ID : 264330611336
Option 2 ID : 264330611337
Option 3 ID : 264330611335
Option 4 ID : 264330611338
Status : Answered
Chosen Option : 1

Q.4 जूली और राहुल एक साथ एक कमरे की पेंटिंग का काम 12 दिनों में पूरा कर सकते हैं। यदि जूली अकेले कमरे को 20 दिनों में पेंट कर सकती है, तो राहुल अकेले कमरे को पेंट करने के समान काम को कितने दिनों में पूरा कर सकता है?

- Ans** ✗ 1. 40
✗ 2. 25
✓ 3. 30
✗ 4. 35

Question ID : 264330155719
Option 1 ID : 264330610282
Option 2 ID : 264330610279
Option 3 ID : 264330610280
Option 4 ID : 264330610281
Status : Answered
Chosen Option : 3

Q.5 एक टीवी सेट को ₹16,800 में बेचने पर एक विक्रेता को 20% का लाभ होता है। यदि उत्पादन लागत में 20% की वृद्धि की जाती है, तो सेट का नया विक्रय मूल्य ज्ञात कीजिए ताकि 20% का लाभ हो।

- Ans** ✗ 1. ₹18,480
✗ 2. ₹20,480
✓ 3. ₹20,160
✗ 4. ₹18,160

Question ID : 264330155999
Option 1 ID : 264330611397
Option 2 ID : 264330611396
Option 3 ID : 264330611398
Option 4 ID : 264330611395
Status : Answered
Chosen Option : 3

Q.6 P और Q अलग-अलग काम करके एक काम को क्रमशः 12 और 18 दिनों में पूरा कर सकते हैं। लेकिन वे एक दिन छोड़कर काम करते हैं और P पहले दिन काम शुरू करता है। काम को पूरा करने में कितने दिन लगेंगे?

Ans

✗ 1. $14\frac{1}{12}$

✗ 2. 15

✓ 3. $14\frac{1}{3}$

✗ 4. $14\frac{1}{4}$

Question ID : 264330154059

Option 1 ID : 264330603702

Option 2 ID : 264330603700

Option 3 ID : 264330603701

Option 4 ID : 264330603699

Status : Answered

Chosen Option : 3

Q.7

पांच फ़र्म द्वारा उत्पादित अंडों की संख्या:

वर्ष	फ़र्म				
	L	M	N	O	P
2019	825	925	670	740	480
2020	928	768	781	530	864
2021	765	635	922	515	940
2022	832	526	623	618	745

वर्ष 2020 में फ़र्म M और फ़र्म P द्वारा उत्पादित दर्जनों अंडों का क्रमशः अनुपात क्या है?

Ans

✗ 1. 9 : 8

✗ 2. 4 : 3

✓ 3. 8 : 9

✗ 4. 7 : 8

Question ID : 264330155761

Option 1 ID : 264330610450

Option 2 ID : 264330610449

Option 3 ID : 264330610447

Option 4 ID : 264330610448

Status : Answered

Chosen Option : 3

Q.8 एक कार डीलर 8% वार्षिक की साधारण ब्याज दर पर 2 वर्ष की अवधि के लिए एक बैंक से ₹20,000 ऋण पर लेता है। यदि वह 2 वर्ष की अवधि के अंत में पूरा ऋण चुकाता है, तो उसे कितना भुगतान करना होगा?

Ans

✗ 1. ₹23,600

✗ 2. ₹3,200

✗ 3. ₹3,600

✓ 4. ₹23,200

Question ID : 264330156269

Option 1 ID : 264330612476

Option 2 ID : 264330612477

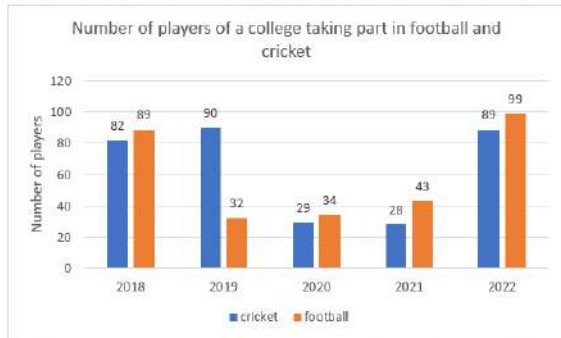
Option 3 ID : 264330612478

Option 4 ID : 264330612475

Status : Answered

Chosen Option : 4

Q.9 निम्न दंड आलेख में पांच साल में दो खेलों में भाग लेने वाले कॉलेज के खिलाड़ियों की संख्या को दर्शाया गया है।



संदर्भ: Number of players of a college taking part in football and cricket - फुटबॉल और क्रिकेट में भाग लेने वाले कॉलेज के खिलाड़ियों की संख्या, Number of players - खिलाड़ियों की संख्या, Cricket - क्रिकेट, Football - फुटबॉल

2019 और 2020 में क्रिकेट और फुटबॉल खेलने वाले खिलाड़ियों की कुल संख्या कितनी है?

- Ans
- 1. 195
 - 2. 180
 - 3. 190
 - 4. 185

Question ID : 264330154100

Option 1 ID : 264330603865

Option 2 ID : 264330603866

Option 3 ID : 264330603864

Option 4 ID : 264330603863

Status : Answered

Chosen Option : 4

Q.10 एक लम्ब वृत्तीय शंकु की त्रिज्या और ऊंचाई का अनुपात 3 : 4 है। यदि इसका आयतन 301.44 m^3 है, तो शंकु की तिर्यक ऊंचाई ज्ञात कीजिए ($\pi = 3.14$ का प्रयोग कीजिए)।

- Ans
- 1. 20 cm
 - 2. 5 cm
 - 3. 15 cm
 - 4. 10 cm

Question ID : 264330156370

Option 1 ID : 264330612879

Option 2 ID : 264330612882

Option 3 ID : 264330612880

Option 4 ID : 264330612881

Status : Answered

Chosen Option : 4

Q.11 एक कॉलेज विद्यार्थी अपनी पॉकेट मनी का 75% खर्च करता है। पॉकेट मनी में 20% की वृद्धि होने पर उसके खर्च में भी 15% की वृद्धि होती है। बचत में कितनी वृद्धि होगी।

- Ans
- 1. 55%
 - 2. 35%
 - 3. 25%
 - 4. 45%

Question ID : 264330154044

Option 1 ID : 264330603642

Option 2 ID : 264330603641

Option 3 ID : 264330603640

Option 4 ID : 264330603639

Status : Answered

Chosen Option : 2

Q.12 वार्षिक रूप से संयोजित किस वार्षिक ब्याज दर पर, ₹8,000 की धनराशि पर 2 वर्षों में ₹904.2 का चक्रवृद्धि ब्याज प्राप्त होगा?

- Ans
- 1. 8%
 - 2. 10%
 - 3. 5.5%
 - 4. 6%

Question ID : 264330156346
Option 1 ID : 264330612784
Option 2 ID : 264330612786
Option 3 ID : 264330612785
Option 4 ID : 264330612783
Status : Answered
Chosen Option : 3

Q.13 $(3+2\sqrt{2})^2$ और $(3-2\sqrt{2})^2$ का माध्यानुपाती ____ है।

- Ans
- 1. 5
 - 2. $3 + 2\sqrt{2}$
 - 3. $2\sqrt{2}$
 - 4. 1

Question ID : 264330154052
Option 1 ID : 264330603671
Option 2 ID : 264330603674
Option 3 ID : 264330603672
Option 4 ID : 264330603673
Status : Answered
Chosen Option : 4

Q.14 सरल कीजिए।

$$108 \div 36 \times 4 + 2.5 \times 4 \div 0.5 - 10$$

- Ans
- 1. 21
 - 2. 20
 - 3. 10
 - 4. 22

Question ID : 264330156049
Option 1 ID : 264330611597
Option 2 ID : 264330611596
Option 3 ID : 264330611595
Option 4 ID : 264330611598
Status : Answered
Chosen Option : 4

Q.15 प्रथम 10 अभाज्य संख्याओं का औसत कितना होगा?

- Ans 1. 12.9
 2. 13.4
 3. 9.7
 4. 11.9

Question ID : 264330154075
Option 1 ID : 264330603765
Option 2 ID : 264330603766
Option 3 ID : 264330603764
Option 4 ID : 264330603763
Status : Answered
Chosen Option : 1

Q.16 P और Q क्रमशः बिंदु A से बिंदु B तक एक ही समय पर 32 km/h और 40 km/h की चाल से चलना शुरू करते हैं। यदि यात्रा को तय करने में P को Q से 15 मिनट अधिक का समय लगता है, तो A से B की यात्रा की कुल दूरी क्या है?

- Ans 1. 32 km
 2. 44 km
 3. 36 km
 4. 40 km

Question ID : 264330156366
Option 1 ID : 264330612866
Option 2 ID : 264330612863
Option 3 ID : 264330612865
Option 4 ID : 264330612864
Status : Answered
Chosen Option : 4

Q.17 प्रथम 69 प्राकृत संख्याओं का औसत ज्ञात कीजिए।

- Ans 1. 34
 2. 35
 3. 33
 4. 36

Question ID : 264330156209
Option 1 ID : 264330612236
Option 2 ID : 264330612237
Option 3 ID : 264330612235
Option 4 ID : 264330612238
Status : Answered
Chosen Option : 2

Q.18 एक मिश्रण में दूध और पानी का अनुपात 9 : 7 है। यदि इसमें दूध की मात्रा पानी से 4 लीटर अधिक है, तो मिश्रण में दूध की मात्रा (लीटर में) ज्ञात कीजिए।

- Ans
- ✗ 1. 21
 - ✗ 2. 15
 - ✓ 3. 18
 - ✗ 4. 14

Question ID : 264330156051
Option 1 ID : 264330611606
Option 2 ID : 264330611605
Option 3 ID : 264330611603
Option 4 ID : 264330611604
Status : Answered
Chosen Option : 3

Q.19 उस समबाहु त्रिभुज का क्षेत्रफल ज्ञात कीजिए, जिसकी प्रत्येक भुजा की माप 12 cm है।

- Ans
- ✗ 1. $\frac{36}{\sqrt{3}} \text{ cm}^2$
 - ✗ 2. $\frac{72}{\sqrt{3}} \text{ cm}^2$
 - ✗ 3. $3\sqrt{3} \text{ cm}^2$
 - ✓ 4. $36\sqrt{3} \text{ cm}^2$

Question ID : 264330153893
Option 1 ID : 264330603038
Option 2 ID : 264330603036
Option 3 ID : 264330603035
Option 4 ID : 264330603037
Status : Answered
Chosen Option : 4

Q.20 एक महिला तीन शेयरों में 3 : 4 : 5 के अनुपात में ₹27,600 का निवेश करती है, जो उस वर्ष के लिए उसके निवेश पर क्रमशः 20%, 15% और 5% का लाभांश देते हैं। कुल लाभांश कितना है?

- Ans
- ✓ 1. ₹3,335
 - ✗ 2. ₹2,535
 - ✗ 3. ₹3,125
 - ✗ 4. ₹3,852

Question ID : 264330154087
Option 1 ID : 264330603814
Option 2 ID : 264330603811
Option 3 ID : 264330603812
Option 4 ID : 264330603813
Status : Answered
Chosen Option : 1

Q.1 यदि निम्नलिखित आकृति श्रृंखला को जारी रखना हो तो कौन-सी आकृति प्रश्न चिन्ह (?) के स्थान पर आनी चाहिए?

T		T △		△	
P □		P	P	T	P
	△△	O	□ T O		?

Ans

✗ 1.

O	P	T
		△

✓ 2.

□	P	T
		△

✗ 3.

	T	O
P		
		△

✗ 4.

□	P	△
		T

KD Job Updates

Question ID : 264330154758

Option 1 ID : 264330606497

Option 2 ID : 264330606498

Option 3 ID : 264330606496

Option 4 ID : 264330606495

Status : Answered

Chosen Option : 2

Q.2 नीचे दिए गए कथनों और निष्कर्षों को ध्यानपूर्वक पढ़िए। आपको मानना है कि दिए गए कथन सत्य हैं चाहे वे समान्यतः ज्ञात तथ्यों से अलग प्रतीत होते हों। आपको निश्चय करना है कि कौन-सा/कौन-से निष्कर्ष तार्किक रूप से दिए गए कथनों के अनुसार है/हैं।

कथन: सभी कंप्यूटर, लैपटॉप हैं। कुछ लैपटॉप, भारी हैं। सभी भारी, लकड़ी हैं।

निष्कर्ष I: सभी लैपटॉप, कंप्यूटर हैं।

निष्कर्ष II: कुछ भारी, लैपटॉप हैं।

- Ans**
- ✓ 1. केवल निष्कर्ष (II) कथनों के अनुसार है।
 - ✗ 2. दोनों निष्कर्ष (I) और (II) कथनों के अनुसार हैं।
 - ✗ 3. केवल निष्कर्ष (I) कथनों के अनुसार है।
 - ✗ 4. न तो निष्कर्ष (I) और न ही (II) कथनों के अनुसार है।

Question ID : 264330155908

Option 1 ID : 264330611036

Option 2 ID : 264330611038

Option 3 ID : 264330611035

Option 4 ID : 264330611037

Status : Answered

Chosen Option : 1

Q.3 एक निश्चित कूट भाषा में, 'BLANCH' को '36' लिखा जाता है और 'ARAB' को '24' लिखा जाता है। उस कूट भाषा में 'CORRECT' को कैसे लिखा जाएगा?

- Ans**
- ✓ 1. 42
 - ✗ 2. 41
 - ✗ 3. 39
 - ✗ 4. 40

Question ID : 264330155825

Option 1 ID : 264330610703

Option 2 ID : 264330610704

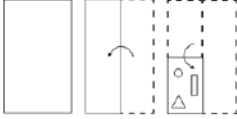
Option 3 ID : 264330610706

Option 4 ID : 264330610705

Status : Answered

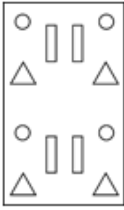
Chosen Option : 1

Q.4 निम्नलिखित आकृतियों में एक कागज़ के टुकड़े को मोड़ने के क्रम और मुड़े हुए कागज़ को काटने के तरीके को दर्शाया गया है। खोलने पर यह कागज़ कैसा दिखाई देगा?

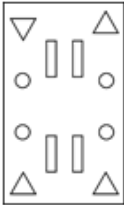


Ans

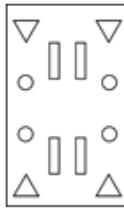
✗ 1.



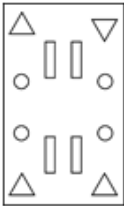
✗ 2.



✓ 3.



✗ 4.



Question ID : 264330155607

Option 1 ID : 264330609834

Option 2 ID : 264330609832

Option 3 ID : 264330609831

Option 4 ID : 264330609833

Status : Answered

Chosen Option : 3

Q.5 यदि शब्द 'BACHELOR' के प्रत्येक अक्षर को अंग्रेज़ी वर्णमाला के क्रम में व्यवस्थित किया जाए तो कितने अक्षरों का स्थान अपरिवर्तित रहेगा?

Ans ✓ 1. चार

✗ 2. एक

✗ 3. पांच

✗ 4. दो

Question ID : 264330154324

Option 1 ID : 264330604760

Option 2 ID : 264330604759

Option 3 ID : 264330604761

Option 4 ID : 264330604762

Status : Answered

Chosen Option : 1

Q.6 अंग्रेजी वर्णमाला क्रम के आधार पर दी गई श्रृंखला में प्रश्न चिह्न '?' के स्थान पर कौन-सा अक्षर-समूह आना चाहिए?

EMT, ILX, MKB, QJF, ?

- Ans
- 1. UHL
 - 2. VHK
 - 3. VJL
 - 4. UIJ

Question ID : 264330156300

Option 1 ID : 264330612599

Option 2 ID : 264330612601

Option 3 ID : 264330612600

Option 4 ID : 264330612602

Status : Answered

Chosen Option : 4

Q.7 अंग्रेजी वर्णमाला क्रम के आधार पर दी गई श्रृंखला में प्रश्न चिह्न (?) के स्थान पर क्या आना चाहिए?

NBE, JXA, FTW, BPS, ?

- Ans
- 1. YMN
 - 2. YNP
 - 3. XLO
 - 4. XMP

Question ID : 264330155771

Option 1 ID : 264330610488

Option 2 ID : 264330610487

Option 3 ID : 264330610489

Option 4 ID : 264330610490

Status : Answered

Chosen Option : 3

Q.8 दी गई आकृति के उस सही दर्पण प्रतिबिंब को चुनिए, जो नीचे दर्शाए गए अनुसार दर्पण को MN पर रखने पर बनेगा।



- Ans
- 1. y R 4 6 h K a
 - 2. y R 4 6 h K a
 - 3. a K h 4 R y
 - 4. y R 4 6 h K a

Question ID : 264330151528

Option 1 ID : 264330593742

Option 2 ID : 264330593739

Option 3 ID : 264330593741

Option 4 ID : 264330593740

Status : Answered

Chosen Option : 4

Q.9 दी गई श्रृंखला में प्रश्न चिन्ह '?' के स्थान पर क्या आना चाहिए?

5 15 35 75 155 ?

- Ans
- 1. 335
 - 2. 305
 - 3. 325
 - 4. 315

Question ID : 264330151456

Option 1 ID : 264330593454

Option 2 ID : 264330593451

Option 3 ID : 264330593453

Option 4 ID : 264330593452

Status : Answered

Chosen Option : 4

Q.10 नीचे दिए गए कथनों और निष्कर्षों को ध्यानपूर्वक पढ़िए। आपको मानना है कि दिए गए कथन सत्य हैं चाहे वे समान्यतः ज्ञात तथ्यों से अलग प्रतीत होते हों। आपको निश्चय करना है कि कौन-सा कौन-से निष्कर्ष तार्किक रूप से दिए गए कथनों के अनुसार है।

कथन: सभी रस्सियां, काटे हैं। कुछ कांटे, चम्मचे हैं। कुछ चम्मचे, चॉपस्टिक हैं।

निष्कर्ष I: कुछ रस्सियां, चम्मचे हैं।

निष्कर्ष II: सभी कांटे, चॉपस्टिक्स हैं।

- Ans
- 1. केवल निष्कर्ष (I) कथनों के अनुसार है।
 - 2. दोनों निष्कर्ष (I) और (II) कथनों के अनुसार हैं।
 - 3. केवल निष्कर्ष (II) कथनों के अनुसार है।
 - 4. न तो निष्कर्ष (I) और न ही (II) कथनों के अनुसार है।

Question ID : 264330155927

Option 1 ID : 264330611111

Option 2 ID : 264330611114

Option 3 ID : 264330611112

Option 4 ID : 264330611113

Status : Answered

Chosen Option : 4

Q.11 निम्नलिखित संख्या-युग्मों में, पहली संख्या पर कुछ गणितीय संक्रियाएँ करके दूसरी संख्या प्राप्त की जाती है। उस समुच्चय को चुनिए जिसमें संख्याएँ ठीक उसी प्रकार संबंधित हैं जिस प्रकार निम्नलिखित समुच्चयों की संख्याएँ संबंधित हैं।

(ध्यान दें: संख्याओं को उनके घटक अंकों में अलग-अलग किए बिना, पूर्ण संख्याओं पर संक्रियाएँ की जानी चाहिए। उदा. 13 – संख्या 13 पर संक्रियाएँ जैसे 13 को जोड़ना/घटाना/गुणा करना आदि किया जा सकता है। 13 को 1 और 3 में अलग-अलग करने की ओर फिर 1 और 3 पर गणितीय संक्रियाएँ करने की अनुमति नहीं है।)

5, 128

9, 732

- Ans**
- 1. 5, 50
 - 2. 2, 13
 - 3. 3, 30
 - 4. 4, 46

Question ID : 264330151620

Option 1 ID : 264330594110

Option 2 ID : 264330594107

Option 3 ID : 264330594108

Option 4 ID : 264330594109

Status : Answered

Chosen Option : 3

Q.12 यदि '+' और '-' को आपस में बदल दिया जाए तथा '×' और '÷' को आपस में बदल दिया जाए तो निम्नलिखित समीकरण में (?) के स्थान पर क्या आएगा?

$$729 \times 81 - 96 + 13 \div 8 = ?$$

- Ans**
- 1. 1
 - 2. 9
 - 3. 11
 - 4. 8

Question ID : 264330155680

Option 1 ID : 264330610124

Option 2 ID : 264330610125

Option 3 ID : 264330610123

Option 4 ID : 264330610126

Status : Answered

Chosen Option : 1

Q.13 निम्नलिखित संख्या-युग्मों में, पहली संख्या पर कुछ गणितीय संक्रियाएँ करके दूसरी संख्या प्राप्त की जाती है। उस समुच्चय को चुनिए जिसमें संख्याएँ ठीक उसी प्रकार संबंधित हैं जिस प्रकार निम्नलिखित समुच्चयों की संख्याएँ संबंधित हैं।

(ध्यान दें: संख्याओं को उनके घटक अंकों में अलग-अलग किए बिना, पूर्ण संख्याओं पर संक्रियाएँ की जानी चाहिए। उदा. 13 – संख्या 13 पर संक्रियाएँ जैसे 13 को जोड़ना/घटाना/गुणा करना आदि किया जा सकता है। 13 को 1 और 3 में अलग-अलग करने की ओर फिर 1 और 3 पर गणितीय संक्रियाएँ करने की अनुमति नहीं है।)

8 : 50

4 : 30

- Ans**
- 1. 5 : 8
 - 2. 7 : 45
 - 3. 20 : 40
 - 4. 6 : 20

Question ID : 264330154646

Option 1 ID : 264330606049

Option 2 ID : 264330606047

Option 3 ID : 264330606050

Option 4 ID : 264330606048

Status : Answered

Chosen Option : 4

Q.14 यदि '+' और '-' को आपस में बदल दिया जाए तथा '×' और '÷' को आपस में बदल दिया जाए तो निम्नलिखित समीकरण में (?) के स्थान पर क्या आएगा?

$$39 \div 5 + 8 - 99 \times 9 = ?$$

- Ans 1. 198
 2. 158
 3. 178
 4. 168

Question ID : 264330154614
Option 1 ID : 264330605922
Option 2 ID : 264330605919
Option 3 ID : 264330605921
Option 4 ID : 264330605920
Status : Answered
Chosen Option : 1

Q.15 दी गई श्रृंखला में प्रश्न चिन्ह '?' के स्थान पर क्या आना चाहिए?

16 110 ? 5374 37616 263310 1843168

- Ans 1. 768
 2. 792
 3. 804
 4. 800

Question ID : 264330151481
Option 1 ID : 264330593551
Option 2 ID : 264330593552
Option 3 ID : 264330593554
Option 4 ID : 264330593553
Status : Answered
Chosen Option : 1

Q.16 छः व्यक्ति, करण, दिलीप, राहुल, प्रभात, आलोक और संदीप एक सीधी पंक्ति में उत्तर की ओर मुख करके बैठे हैं। करण बाईं ओर के छोर से दूसरे स्थान पर बैठा है। दिलीप, करण के दाईं ओर से तीसरे स्थान पर बैठा है। राहुल, दिलीप के बाईं ओर दूसरे स्थान पर बैठा है। प्रभात, राहुल के दाईं ओर से तीसरे स्थान पर बैठा है। संदीप प्रभात के बाईं ओर से दूसरे स्थान पर बैठा है। करण के दाईं ओर से दूसरे स्थान पर कौन बैठा है?

- Ans 1. आलोक
 2. राहुल
 3. संदीप
 4. प्रभात

Question ID : 264330161848
Option 1 ID : 264330634719
Option 2 ID : 264330634720
Option 3 ID : 264330634721
Option 4 ID : 264330634722
Status : Answered
Chosen Option : 3

Q.17 अंग्रेजी वर्णमाला क्रम के आधार पर DKJE, IPOJ से एक निश्चित प्रकार से संबंधित है। उसी प्रकार, GTSM, LYXR से संबंधित है। समान तर्क का अनुसरण करते हुए, RBNF निम्नलिखित में से किससे संबंधित है?

- Ans
- ✓ 1. WGSK
 - ✗ 2. XERJ
 - ✗ 3. VGQI
 - ✗ 4. WEQK

Question ID : 264330151656
Option 1 ID : 264330594253
Option 2 ID : 264330594254
Option 3 ID : 264330594252
Option 4 ID : 264330594251
Status : Answered
Chosen Option : 1

Q.18 दी गई श्रृंखला में प्रश्न चिन्ह '?' के स्थान पर क्या आना चाहिए?

4 22 112 562 2812 ?

- Ans
- ✗ 1. 13684
 - ✗ 2. 13423
 - ✗ 3. 13948
 - ✓ 4. 14062

Question ID : 264330151464
Option 1 ID : 264330593484
Option 2 ID : 264330593483
Option 3 ID : 264330593485
Option 4 ID : 264330593486
Status : Answered
Chosen Option : 4

Q.19 अंग्रेजी वर्णमाला क्रम के आधार पर दी गई श्रृंखला में प्रश्न चिह्न (?) के स्थान पर क्या आना चाहिए?

MAG, QXE, UUC, YRA, ?

- Ans
- ✗ 1. DMX
 - ✗ 2. DNY
 - ✓ 3. COY
 - ✗ 4. CNX

Question ID : 264330155806
Option 1 ID : 264330610628
Option 2 ID : 264330610629
Option 3 ID : 264330610627
Option 4 ID : 264330610630
Status : Answered
Chosen Option : 3

Q.20 एक निश्चित कूट भाषा में, 'COIN' को '9735' लिखा जाता है और 'ONCE' को '3459' लिखा जाता है। उसी कूट भाषा में 'E' को कैसे लिखा जाएगा?

- Ans**
- 1. 4
 - 2. 9
 - 3. 5
 - 4. 3

Question ID : 264330151693
Option 1 ID : 264330594399
Option 2 ID : 264330594401
Option 3 ID : 264330594402
Option 4 ID : 264330594400
Status : Answered
Chosen Option : 1

Section : General Awareness

Q.1 दिए गए विकल्पों में से कौन-सा विकल्प प्रतिध्वनि उत्पन्न करता है?

- Ans**
- 1. जब ध्वनि तरंगों किसी ठोस माध्यम से होकर गुजरती हैं
 - 2. जब ध्वनि तरंगों निर्वात से होकर गुजरती हैं
 - 3. जब ध्वनि परावर्तित होती है
 - 4. जब ध्वनि तरंगों किसी तरल माध्यम से होकर गुजरती हैं

Question ID : 264330157786
Option 1 ID : 264330618505
Option 2 ID : 264330618503
Option 3 ID : 264330618506
Option 4 ID : 264330618504
Status : Answered
Chosen Option : 3

Q.2 गेटो सोरा (Geto Sora) ने एरेना जूनियर (बॉयज़) इंटरनेशनल बैडमिंटन चैम्पियनशिप (Arena Junior (Boys) International Badminton Championship) जीती। वह किस राज्य से हैं?

- Ans**
- 1. मेघालय
 - 2. सिक्किम
 - 3. मिजोरम
 - 4. अरुणाचल प्रदेश

Question ID : 264330158369
Option 1 ID : 264330620835
Option 2 ID : 264330620838
Option 3 ID : 264330620837
Option 4 ID : 264330620836
Status : Not Answered
Chosen Option : --

Q.3 कालिदास सम्मान _____ की सरकार द्वारा प्रतिवर्ष प्रदान किया जाने वाला एक प्रतिष्ठित कला पुरस्कार है।

- Ans
- 1. कर्नाटक
 - 2. केरल
 - 3. राजस्थान
 - 4. मध्यप्रदेश

Question ID : 264330161911
Option 1 ID : 264330634972
Option 2 ID : 264330634971
Option 3 ID : 264330634974
Option 4 ID : 264330634973
Status : Answered
Chosen Option : 1

Q.4 निम्नलिखित में से कौन-सी मुद्रा की विशेषता नहीं है?

- Ans
- 1. भाजकत्व (Divisibility)
 - 2. स्थायित्व (Durability)
 - 3. नश्वरता (Perishability)
 - 4. सुवाह्यता (Portability)

Question ID : 264330157303
Option 1 ID : 264330616577
Option 2 ID : 264330616575
Option 3 ID : 264330616578
Option 4 ID : 264330616576
Status : Answered
Chosen Option : 3

Q.5 निम्नलिखित में से कौन-सा राज्य 37वें राष्ट्रीय खेलों की मेजबानी करेगा?

- Ans
- 1. कर्नाटक
 - 2. ओडिशा
 - 3. गोवा
 - 4. आंध्र प्रदेश

Question ID : 264330161150
Option 1 ID : 264330631931
Option 2 ID : 264330631934
Option 3 ID : 264330631933
Option 4 ID : 264330631932
Status : Not Answered
Chosen Option : --

Q.6 बाल विवाह निषेध अधिनियम (Child Marriage Restraint Act) निम्नलिखित में से किस वर्ष पारित किया गया था?

- Ans
- 1. 1939
 - 2. 1949
 - 3. 1950
 - 4. 1929

Question ID : 264330161751
Option 1 ID : 264330634332
Option 2 ID : 264330634333
Option 3 ID : 264330634334
Option 4 ID : 264330634331
Status : Not Answered
Chosen Option : --

Q.7 'बोर्न अगेन ऑन द माउंटेन: ए स्टोरी ऑफ लूजिंग एवरीथिंग एंड फाइंडिंग इट बैक' (Born Again on the Mountain: a story of losing everything and finding it back) किसकी आत्मकथा का शीर्षक है?

- Ans
- 1. बचंदरी पाल
 - 2. डिकी डोल्मा
 - 3. अरुणिमा सिन्हा
 - 4. संतोष यादव

Question ID : 264330155451
Option 1 ID : 264330609207
Option 2 ID : 264330609209
Option 3 ID : 264330609208
Option 4 ID : 264330609210
Status : Answered
Chosen Option : 3

Q.8 8 अप्रैल 1929 को निम्नलिखित में से किन दो क्रांतिकारियों ने केंद्रीय विधान सभा (Central Legislative Assembly) में बम फेंका था?

- Ans
- 1. भगत सिंह और राम प्रसाद बिस्मिल
 - 2. भगत सिंह और सुखदेव
 - 3. भगत सिंह और राजगुरु
 - 4. भगत सिंह और बटुकेश्वर दत्त

Question ID : 264330161746
Option 1 ID : 264330634312
Option 2 ID : 264330634314
Option 3 ID : 264330634313
Option 4 ID : 264330634311
Status : Answered
Chosen Option : 4

Q.9 राज्य चुनाव आयुक्त की नियुक्ति कौन करता है?

- Ans
- 1. मुख्यमंत्री
 - 2. राज्यपाल
 - 3. महाधिवक्ता
 - 4. अध्यक्ष

Question ID : 264330159924
Option 1 ID : 264330627044
Option 2 ID : 264330627043
Option 3 ID : 264330627046
Option 4 ID : 264330627045
Status : Answered
Chosen Option : 2

Q.10 भारत में, सूक्ष्म वित्त संस्थान मुख्य रूप से जनसंख्या के किस वर्ग को लक्षित करते हैं?

- Ans 1. आप्रवासी भारतीय (NRIs)
 2. कम आय वाले व्यक्ति और छोटे व्यवसाय
 3. उच्च आय वाले व्यक्ति
 4. बड़े निगम

Question ID : 264330157287
Option 1 ID : 264330616514
Option 2 ID : 264330616513
Option 3 ID : 264330616511
Option 4 ID : 264330616512
Status : Answered
Chosen Option : 2

Q.11 ICC 2023 ODI क्रिकेट विश्व कप में कितने देश भाग लेंगे?

- Ans 1. 8
 2. 6
 3. 10
 4. 12

Question ID : 264330158226
Option 1 ID : 264330620264
Option 2 ID : 264330620263
Option 3 ID : 264330620265
Option 4 ID : 264330620266
Status : Answered
Chosen Option : 3

Q.12 पूर्वी भारत में फैले कई आदिवासी समुदायों में साल के पेड़ का बहुत महत्व है। उदाहरण के लिए, _____ त्योहार झारखंड में पेड़ के सम्मान में मनाया जाता है।

- Ans 1. टुसु परब (Tusu Parab)
 2. सरहुल (Sarhul)
 3. करमा (Karma)
 4. सोहराय (Sohrai)

Question ID : 264330160836
Option 1 ID : 264330630678
Option 2 ID : 264330630676
Option 3 ID : 264330630677
Option 4 ID : 264330630675
Status : Not Answered
Chosen Option : --

Q.13 'विंग्स ऑफ फायर' किसकी आत्मकथा है?

- Ans
- 1. इंदिरा गांधी
 - 2. ए. पी. जे. अब्दुल कलाम
 - 3. रतन टाटा
 - 4. सुभाष चंद्र बोस

Question ID : 264330155491
Option 1 ID : 264330609369
Option 2 ID : 264330609367
Option 3 ID : 264330609370
Option 4 ID : 264330609368
Status : Answered
Chosen Option : 2

Q.14 भारत में राष्ट्रीय जलमार्ग-2 (NW-2) किस नदी पर विकसित किया गया है?

- Ans
- 1. ब्रह्मपुत्र
 - 2. गंगा
 - 3. नर्मदा
 - 4. कृष्णा

Question ID : 264330161512
Option 1 ID : 264330633377
Option 2 ID : 264330633378
Option 3 ID : 264330633375
Option 4 ID : 264330633376
Status : Answered
Chosen Option : 2

Q.15 भारतीय संविधान का _____ भारतीय नागरिकों के मौलिक कर्तव्यों को परिभाषित करता है।

- Ans
- 1. अनुच्छेद 51A
 - 2. अनुच्छेद 41B
 - 3. अनुच्छेद 21A
 - 4. अनुच्छेद 49C

Question ID : 264330162245
Option 1 ID : 264330636310
Option 2 ID : 264330636308
Option 3 ID : 264330636307
Option 4 ID : 264330636309
Status : Answered
Chosen Option : 1

Q.16 निम्नलिखित में से उस छठ नर्तक/ नर्तकी की पहचान कीजिए, जिसे संगीत नाटक अकादमी पुरस्कार-2021 (फरवरी 2023 में दिया गया)से सम्मानित किया गया?

- Ans
- 1. कुमकुम धर
 - 2. रवीन्द्र अतिबुद्धि
 - 3. भारती विठ्ठल
 - 4. भुवन कुमार

Question ID : 264330155519
Option 1 ID : 264330609480
Option 2 ID : 264330609482
Option 3 ID : 264330609481
Option 4 ID : 264330609479
Status : Not Answered
Chosen Option : --

Q.17 निम्नलिखित में से कौन-सी झील खारे पानी की झील है?

- Ans
- 1. सुपीरियर (Superior)
 - 2. चिल्का (Chilika)
 - 3. टिटिकाका (Titicaca)
 - 4. मलावी (Malawi)

Question ID : 264330161325
Option 1 ID : 264330632628
Option 2 ID : 264330632627
Option 3 ID : 264330632630
Option 4 ID : 264330632629
Status : Answered
Chosen Option : 2

Q.18 पद्म श्री पुरस्कार विजेता गुरु के. कल्याणसुंदरम पिल्लई, वह व्यक्ति जो एक प्राचीन परंपरा को जीवित रख रहे हैं, को _____ के क्षेत्र में उनके योगदान के लिए पद्म श्री 2023 से सम्मानित किया गया था।

- Ans
- 1. मोहिनीअट्टम
 - 2. भरतनाट्यम
 - 3. कथकली
 - 4. कुचिपुडी

Question ID : 264330160805
Option 1 ID : 264330630552
Option 2 ID : 264330630553
Option 3 ID : 264330630554
Option 4 ID : 264330630551
Status : Answered
Chosen Option : 1

Q.19 भारत की जनगणना 2011 के अनुसार, उन राज्य और केंद्र शासित प्रदेशों की सही जोड़ी की पहचान कीजिए जिन्होंने उच्चतम साक्षरता दर दर्ज की है।

- Ans
- 1. केरल और लक्षद्वीप
 - 2. मिजोरम और लक्षद्वीप
 - 3. गोवा और पुडुचेरी
 - 4. केरल और चंडीगढ़

Question ID : 264330161558
Option 1 ID : 264330633560
Option 2 ID : 264330633559
Option 3 ID : 264330633562
Option 4 ID : 264330633561
Status : Answered
Chosen Option : 4

Q.20 निम्नलिखित में से किस भारतीय संगीतकार को 'गज़ल सम्राट' कहा जाता था?

- Ans
- 1. पंकज उधास (Pankaj Udhas)
 - 2. मेहदी हसन (Mehdi Hassan)
 - 3. गुलाम अली (Ghulam Ali)
 - 4. जगजीत सिंह (Jagjit Singh)

Question ID : 264330161774
Option 1 ID : 264330634425
Option 2 ID : 264330634423
Option 3 ID : 264330634424
Option 4 ID : 264330634426
Status : Answered
Chosen Option : 4

Q.21 हिमाचल प्रदेश सरकार द्वारा डेयरी किसानों के लिए शुरू की गई योजना का नाम क्या है?

- Ans
- 1. दूध और धन
 - 2. दुग्ध धन
 - 3. संजीवनी
 - 4. पशु पोषण

Question ID : 264330158327
Option 1 ID : 264330620670
Option 2 ID : 264330620669
Option 3 ID : 264330620668
Option 4 ID : 264330620667
Status : Not Answered
Chosen Option : --

Q.22 बंगाल की खाड़ी में स्थित विश्व का सबसे बड़ा डेल्टा सुंदरवन किस प्रकार की वनस्पति को दर्शाता है?

- Ans
- 1. उष्णकटिबंधीय कांटेदार वन
 - 2. पर्वतीय वन
 - 3. मैंग्रोव वन
 - 4. अर्ध सदाबहार वन

Question ID : 264330160994
Option 1 ID : 264330631310
Option 2 ID : 264330631309
Option 3 ID : 264330631308
Option 4 ID : 264330631307
Status : Answered
Chosen Option : 3

Q.23 _____ की दो परंपराएं हैं: एक है संकीर्तन (जो भक्ति पहलू है) और दूसरा है रास।

- Ans
- 1. छउ
 - 2. ओडिसी
 - 3. मणिपुरी नृत्य
 - 4. सत्रिय

Question ID : 264330160791
Option 1 ID : 264330630497
Option 2 ID : 264330630495
Option 3 ID : 264330630498
Option 4 ID : 264330630496
Status : Answered
Chosen Option : 2

Q.24 डॉ. भूपेन्द्र कुमार हजारिका ने 2019 में _____ के क्षेत्र में भारत रत्न पुरस्कार जीता।

- Ans
- 1. साहित्य
 - 2. विज्ञान
 - 3. संगीत
 - 4. खेल

Question ID : 264330155506
Option 1 ID : 264330609428
Option 2 ID : 264330609427
Option 3 ID : 264330609429
Option 4 ID : 264330609430
Status : Answered
Chosen Option : 3

Q.25 अरब सागर में मुंबई उच्च क्षेत्र (Mumbai High region) _____ खनन के लिए जाना जाता है।

- Ans
- 1. कोयला
 - 2. यूरेनियम
 - 3. खनिज तेल
 - 4. तांबा

Question ID : 264330161526
Option 1 ID : 264330633434
Option 2 ID : 264330633431
Option 3 ID : 264330633433
Option 4 ID : 264330633432
Status : Answered
Chosen Option : 3

Q.1 Select the most appropriate ANTONYM of the given word.
Wisdom

- Ans 1. Experience
 2. Modesty
 3. Stupidity
 4. Intelligence

Question ID : 264330152657
Option 1 ID : 264330598233
Option 2 ID : 264330598234
Option 3 ID : 264330598232
Option 4 ID : 264330598231
Status : Answered
Chosen Option : 3

Q.2 Select the most appropriate ANTONYM of the word given in brackets to fill in the blank.

The doctor said that the patient named Rumi is in the _____(initial) stage of lung cancer.

- Ans 1. outermost
 2. innermost
 3. terminal
 4. early

Question ID : 264330152695
Option 1 ID : 264330598385
Option 2 ID : 264330598383
Option 3 ID : 264330598386
Option 4 ID : 264330598384
Status : Answered
Chosen Option : 3

Q.3 Select the most appropriate idiom from the given options to fill in the blank.

We broke the traffic rules unknowingly while coming back from the party, now we have to _____ sooner or later.

- Ans 1. face the music
 2. cry for the moon
 3. bid defiance
 4. look sharp

Question ID : 264330152687
Option 1 ID : 264330598354
Option 2 ID : 264330598351
Option 3 ID : 264330598352
Option 4 ID : 264330598353
Status : Answered
Chosen Option : 1

Q.4 Select the most appropriate meaning of the underlined idiom.
My friend's business has grown by leaps and bounds.

- Ans 1. aimlessly
 2. rapidly
 3. perfectly
 4. slowly

Question ID : 264330152751
Option 1 ID : 264330598606
Option 2 ID : 264330598603
Option 3 ID : 264330598605
Option 4 ID : 264330598604
Status : Answered
Chosen Option : 2

Q.5 Select the most appropriate option that can substitute the underlined segment in the given sentence.
Peer pressure is bound to effect most of us both positively and negatively.

- Ans 1. to prompt most of us
 2. to invoke most of us
 3. to impede most of us
 4. to affect most of us

Question ID : 264330151809
Option 1 ID : 264330594864
Option 2 ID : 264330594865
Option 3 ID : 264330594866
Option 4 ID : 264330594863
Status : Answered
Chosen Option : 4

Q.6 Parts of the following sentence have been underlined and given as options. Select the option that contains an error.
If he will come early, we will leave on time.

- Ans 1. If he
 2. will come
 3. we will
 4. on time

Question ID : 264330144888
Option 1 ID : 264330567807
Option 2 ID : 264330567808
Option 3 ID : 264330567809
Option 4 ID : 264330567810
Status : Answered
Chosen Option : 2

Q.7 Select the most appropriate meaning of the underlined idiom in the following sentence.

I ordered a dozen doughnuts, but the kind baker gave me a baker's dozen.

- Ans
- 1. A group of 12 bakers
 - 2. A group of 12
 - 3. A group of 13
 - 4. A group of 12 bakery items

Question ID : 264330153076
Option 1 ID : 264330599870
Option 2 ID : 264330599868
Option 3 ID : 264330599867
Option 4 ID : 264330599869
Status : Answered
Chosen Option : 1

Q.8 Select the most appropriate option to fill in the blank.
He generally avoids arguments as he is _____ by nature.

- Ans
- 1. reliable
 - 2. peaceful
 - 3. quick-minded
 - 4. questionable

Question ID : 264330153549
Option 1 ID : 264330601698
Option 2 ID : 264330601696
Option 3 ID : 264330601695
Option 4 ID : 264330601697
Status : Answered
Chosen Option : 1

Q.9 Select the most appropriate option that can substitute the underlined segment in the given sentence. If there is no need to substitute it, select 'No substitution required'.
The pandemic has challenged education systems to ensure learning continuity, substantially increasing the demands placed on teachers.

- Ans
- 1. education systems to ensuring learning
 - 2. education systems for ensure learning
 - 3. education systems in ensure learning
 - 4. No substitution required

Question ID : 264330151901
Option 1 ID : 264330595219
Option 2 ID : 264330595221
Option 3 ID : 264330595220
Option 4 ID : 264330595222
Status : Answered
Chosen Option : 2

Q.10 Select the INCORRECTLY spelt word.

- Ans 1. Adopt
 2. Advertisement
 3. Container
 4. Contantment

Question ID : 264330152945
Option 1 ID : 264330599360
Option 2 ID : 264330599359
Option 3 ID : 264330599362
Option 4 ID : 264330599361
Status : Answered
Chosen Option : 4

Q.11 Select the option that will improve the underlined part of the given sentence. In case no improvement is needed, select 'No improvement required'.
Jack being the wiser and bolder among the two of us, took the lead, carrying the axe on his shoulder.

- Ans 1. bolder between
 2. boldest between
 3. boldest among
 4. No improvement required

Question ID : 264330153199
Option 1 ID : 264330600356
Option 2 ID : 264330600357
Option 3 ID : 264330600355
Option 4 ID : 264330600358
Status : Answered
Chosen Option : 1

Q.12 Parts of the following sentence have been underlined and given as options. Select the option that contains an error.

They had two bedrooms among them, one for the girls and one for the boys.

- Ans 1. bedrooms among
 2. had two
 3. them, one for
 4. girls and one

Question ID : 264330153210
Option 1 ID : 264330600402
Option 2 ID : 264330600400
Option 3 ID : 264330600399
Option 4 ID : 264330600401
Status : Answered
Chosen Option : 1

Q.13 Select the sentence that has NO spelling errors.

- Ans** 1. The teacher was impressed with the student's insightfull analysis of the novel, which demonstrated a deep understanding of the complex theames and motifs.
2. The teacher was impressed with the student's insightful analysis of the novel, which demonstrated a deep understanding of the complex themes and motifs.
3. The teacher was impressed with the student's insightful analysis of the novel, which demonstrated a deep understanding of the complex themes and motifs.
4. The teacher was impresed with the student's insightful analysis of the novel, which demonstreted a deep understanding of the complex themes and motifs.

Question ID : 264330152650
Option 1 ID : 264330598205
Option 2 ID : 264330598204
Option 3 ID : 264330598206
Option 4 ID : 264330598203
Status : Answered
Chosen Option : 3

Q.14 Select the option that can be used as a one-word substitute for the given group of words.

To go away suddenly and secretly in order to escape from somewhere

- Ans** 1. Excavate
2. Abscond
3. Vanish
4. Extradite

Question ID : 264330151871
Option 1 ID : 264330595103
Option 2 ID : 264330595106
Option 3 ID : 264330595104
Option 4 ID : 264330595105
Status : Answered
Chosen Option : 1

Q.15 Select the INCORRECTLY spelt word.

- Ans** 1. Argument
2. Amateur
3. Writting
4. Beginning

Question ID : 264330152646
Option 1 ID : 264330598190
Option 2 ID : 264330598188
Option 3 ID : 264330598187
Option 4 ID : 264330598189
Status : Answered
Chosen Option : 3

Q.16 Select the most appropriate meaning of the underlined idiom in the following sentence.

Tim joined the family business as he failed in his final degree examination. Seeing the growth of the family business now, it seems like Tim's earlier failure was a blessing in disguise.

- Ans** 1. Something good that isn't recognised at first
 2. A difficult time
 3. A mistake
 4. A good decision

Question ID : 264330153047
Option 1 ID : 264330599757
Option 2 ID : 264330599756
Option 3 ID : 264330599755
Option 4 ID : 264330599758
Status : Answered
Chosen Option : 1

Q.17 Select the most appropriate synonym of the given word.
Peculiar

- Ans** 1. Jovial
 2. Normal
 3. Strange
 4. Neat

Question ID : 264330151923
Option 1 ID : 264330595310
Option 2 ID : 264330595308
Option 3 ID : 264330595307
Option 4 ID : 264330595309
Status : Answered
Chosen Option : 1

Q.18 The following sentence has been split into four segments. Identify the segment that contains a grammatical error.

Guard over / making mistakes / by carefully checking / the assigned task.

- Ans** 1. making mistakes
 2. by carefully checking
 3. Guard over
 4. the assigned task

Question ID : 264330155428
Option 1 ID : 264330609120
Option 2 ID : 264330609121
Option 3 ID : 264330609119
Option 4 ID : 264330609122
Status : Answered
Chosen Option : 1

Q.19 Select the option that can be used as a one-word substitute for the underlined group of words.

Many people fought to put an end to slavery during the civil war.

- Ans
- 1. abduct
 - 2. abolish
 - 3. abide
 - 4. absorb

Question ID : 264330152705

Option 1 ID : 264330598420

Option 2 ID : 264330598421

Option 3 ID : 264330598422

Option 4 ID : 264330598419

Status : Answered

Chosen Option : 1

Q.20 The following sentence has been split into four segments. Identify the segment that contains a grammatical error and select the option which rectifies that error.

AI fiction is a constantly / evolving genre that gives us an peek / into the potential upsides and downsides / of intelligent machines.

- Ans
- 1. into a potential upside and downside
 - 2. AI fiction is an constantly
 - 3. evolving genre that gives us a peek
 - 4. of intelligent machine.

Question ID : 264330141341

Option 1 ID : 264330553702

Option 2 ID : 264330553701

Option 3 ID : 264330553699

Option 4 ID : 264330553700

Status : Answered

Chosen Option : 3

Comprehension:

In the following passage some words have been deleted. Read the passage carefully and select the most appropriate option to fill in each blank.

_____ (1) university or college degree has long been the traditional hallmark of a _____ (2) candidate in the professional arena. While it historically provided the most widely accepted standard of qualification and skill for professionals, many companies today _____ (3) their hiring process and considering a broader list of criteria to judge a candidate's ability. Organisations are reducing their reliance on college degrees as a sole marker of competence and instead placing greater emphasis _____ (4) the practical skills candidates have acquired through work experience. This shift in hiring is of particular relevance to India, which has the _____ (5) youth population in the world.

SubQuestion No : 21

Q.21 Select the most appropriate option to fill in blank number 1.

- Ans
- 1. An
 - 2. A
 - 3. The
 - 4. That

Question ID : 264330152766

Option 1 ID : 264330598656

Option 2 ID : 264330598655

Option 3 ID : 264330598657

Option 4 ID : 264330598658

Status : Answered

Chosen Option : 2

Comprehension:

In the following passage some words have been deleted. Read the passage carefully and select the most appropriate option to fill in each blank.

_____ (1) university or college degree has long been the traditional hallmark of a _____ (2) candidate in the professional arena. While it historically provided the most widely accepted standard of qualification and skill for professionals, many companies today _____ (3) their hiring process and considering a broader list of criteria to judge a candidate's ability. Organisations are reducing their reliance on college degrees as a sole marker of competence and instead placing greater emphasis _____ (4) the practical skills candidates have acquired through work experience. This shift in hiring is of particular relevance to India, which has the _____ (5) youth population in the world.

SubQuestion No : 22

Q.22 Select the most appropriate option to fill in blank number 2.

- Ans 1. qualified
 2. qualification
 3. qualify
 4. was qualify

Question ID : 264330152767

Option 1 ID : 264330598659

Option 2 ID : 264330598661

Option 3 ID : 264330598660

Option 4 ID : 264330598662

Status : Answered

Chosen Option : 1

Comprehension:

In the following passage some words have been deleted. Read the passage carefully and select the most appropriate option to fill in each blank.

_____ (1) university or college degree has long been the traditional hallmark of a _____ (2) candidate in the professional arena. While it historically provided the most widely accepted standard of qualification and skill for professionals, many companies today _____ (3) their hiring process and considering a broader list of criteria to judge a candidate's ability. Organisations are reducing their reliance on college degrees as a sole marker of competence and instead placing greater emphasis _____ (4) the practical skills candidates have acquired through work experience. This shift in hiring is of particular relevance to India, which has the _____ (5) youth population in the world.

SubQuestion No : 23

Q.23 Select the most appropriate option to fill in blank number 3.

- Ans 1. was changing
 2. was changed
 3. changing
 4. are changing

Question ID : 264330152768

Option 1 ID : 264330598664

Option 2 ID : 264330598663

Option 3 ID : 264330598666

Option 4 ID : 264330598665

Status : Answered

Chosen Option : 2

Comprehension:

In the following passage some words have been deleted. Read the passage carefully and select the most appropriate option to fill in each blank.

_____ (1) university or college degree has long been the traditional hallmark of a
_____ (2) candidate in the professional arena. While it historically provided the most widely accepted standard of qualification and skill for professionals, many companies today
_____ (3) their hiring process and considering a broader list of criteria to judge a candidate's ability. Organisations are reducing their reliance on college degrees as a sole marker of competence and instead placing greater emphasis _____ (4) the practical skills candidates have acquired through work experience. This shift in hiring is of particular relevance to India, which has the _____ (5) youth population in the world.

SubQuestion No : 24

Q.24 Select the most appropriate option to fill in blank number 4.

- Ans 1. about
 2. on
 3. for
 4. with

Question ID : 264330152769

Option 1 ID : 264330598669

Option 2 ID : 264330598667

Option 3 ID : 264330598670

Option 4 ID : 264330598668

Status : Answered

Chosen Option : 2

Comprehension:

In the following passage some words have been deleted. Read the passage carefully and select the most appropriate option to fill in each blank.

_____ (1) university or college degree has long been the traditional hallmark of a
_____ (2) candidate in the professional arena. While it historically provided the most widely accepted standard of qualification and skill for professionals, many companies today
_____ (3) their hiring process and considering a broader list of criteria to judge a candidate's ability. Organisations are reducing their reliance on college degrees as a sole marker of competence and instead placing greater emphasis _____ (4) the practical skills candidates have acquired through work experience. This shift in hiring is of particular relevance to India, which has the _____ (5) youth population in the world.

SubQuestion No : 25

Q.25 Select the most appropriate option to fill in blank number 5.

- Ans 1. most highest
 2. largest
 3. biggest
 4. longest

Question ID : 264330152770

Option 1 ID : 264330598671

Option 2 ID : 264330598673

Option 3 ID : 264330598672

Option 4 ID : 264330598674

Status : Answered

Chosen Option : 3

Multi Tasking Non Technical Staff and Havaladar CBIC and CBN Examination 2023

Roll Number	KD Job Updates
Candidate Name	KD Job Updates
Venue Name	Eduhive Palestra
Exam Date	04/09/2023
Exam Time	12:30 PM - 2:30 PM
Subject	MTS Non Tech Havaladar CBIC and CBN Examination 2023

Section : Numerical and Mathematical Ability

Q.1 17 पुरुषों का औसत भार 63 kg है और 36 महिलाओं का औसत भार 54 kg है। सभी पुरुषों और महिलाओं का मिलाकर औसत भार (kg में) कितना है? (निकटतम पूर्णांक तक सन्निकटित)

- Ans**
- 1. 59
 - 2. 62
 - 3. 52
 - 4. 57

Question ID : 264330155727
Option 1 ID : 264330610312
Option 2 ID : 264330610311
Option 3 ID : 264330610314
Option 4 ID : 264330610313
Status : Answered
Chosen Option : 2

Q.2 विक्रम अपने मासिक वेतन का 13% बचाता है। यदि उसका मासिक व्यय ₹5,220 है, तो उसकी मासिक बचत कितनी है?

- Ans**
- 1. ₹580
 - 2. ₹680
 - 3. ₹349
 - 4. ₹780

Question ID : 264330156430
Option 1 ID : 264330613114
Option 2 ID : 264330613112
Option 3 ID : 264330613111
Option 4 ID : 264330613113
Status : Answered
Chosen Option : 4

Q.3 6% वार्षिक साधारण ब्याज पर निवेश की गई धनराशि 5 वर्षों में बढ़कर ₹1,13,880 हो जाती है। यदि समान धनराशि 9% वार्षिक दर से 8 वर्षों के लिए निवेश की जाती है, तो साधारण ब्याज कितना होगा?

- Ans 1. ₹63,072
 2. ₹65,392
 3. ₹60,565
 4. ₹58,050

Question ID : 264330158753
Option 1 ID : 264330622371
Option 2 ID : 264330622373
Option 3 ID : 264330622374
Option 4 ID : 264330622372
Status : Answered
Chosen Option : 1

Q.4 ₹2,000 पर $2\frac{1}{2}$ वर्ष के लिए 10% वार्षिक दर से चक्रवृद्धि ब्याज (वार्षिक रूप से संयोजित) ज्ञात कीजिए।

- Ans 1. ₹ 500
 2. ₹ 561
 3. ₹ 521
 4. ₹ 541

Question ID : 264330156078
Option 1 ID : 264330611713
Option 2 ID : 264330611711
Option 3 ID : 264330611714
Option 4 ID : 264330611712
Status : Answered
Chosen Option : 4

Q.5 12 cm, 9 cm और 2 cm आयामों वाले घनाभ के आकार के धातु के एक ठोस टुकड़े को एक घन के आकार में ढाला जाता है। इस घन का पार्श्व पृष्ठीय क्षेत्रफल (cm^2 में) क्या होगा?

- Ans 1. 216
 2. 204
 3. 144
 4. 162

Question ID : 264330153793
Option 1 ID : 264330602635
Option 2 ID : 264330602638
Option 3 ID : 264330602636
Option 4 ID : 264330602637
Status : Answered
Chosen Option : 1

Q.6 यदि $A : B = 7 : 9$ और $B : C = 5 : 6$ है, तो C और A का क्रमशः अनुपात ज्ञात कीजिए।

- Ans
- ✓ 1. 54 : 35
 - ✗ 2. 15 : 14
 - ✗ 3. 35 : 54
 - ✗ 4. 14 : 15

Question ID : 264330153767

Option 1 ID : 264330602532

Option 2 ID : 264330602534

Option 3 ID : 264330602531

Option 4 ID : 264330602533

Status : Answered

Chosen Option : 1

Q.7 दो संख्याएँ 6 : 7 के अनुपात में हैं। यदि इन संख्याओं के बीच का अंतर 16 है, तो वे संख्याएँ ज्ञात कीजिए।

- Ans
- ✗ 1. 80, 96
 - ✓ 2. 96, 112
 - ✗ 3. 104, 120
 - ✗ 4. 120, 136

Question ID : 264330153876

Option 1 ID : 264330602969

Option 2 ID : 264330602967

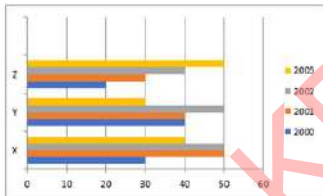
Option 3 ID : 264330602970

Option 4 ID : 264330602968

Status : Answered

Chosen Option : 2

Q.8 निम्नलिखित दंड आलेख में वर्ष 2000 - 2003 के दौरान 3 कंपनियों X, Y और Z द्वारा सीमेंट के उत्पादन को दर्शाया गया है। मात्रा लाख बोरियों में है। दंड आलेख का ध्यानपूर्वक अध्ययन कीजिए और नीचे दिए गए प्रश्न का उत्तर दीजिए।



2000 - 2003 के दौरान कंपनी X के औसत उत्पादन और उसी अवधि के दौरान कंपनी Y के उत्पादन का अनुपात (लाख बोरियों में) क्या है?

- Ans
- ✗ 1. 8 : 7
 - ✗ 2. 12 : 17
 - ✓ 3. 17 : 16
 - ✗ 4. 10 : 7

Question ID : 264330153858

Option 1 ID : 264330602895

Option 2 ID : 264330602898

Option 3 ID : 264330602897

Option 4 ID : 264330602896

Status : Answered

Chosen Option : 3

Q.9 एक पंसारी ने ₹40 प्रति किलोग्राम मूल्य वाली 50 kg चीनी खरीदी और उसे ₹30 प्रति किलोग्राम मूल्य वाली 70 kg चीनी के साथ मिला दिया। 20% का लाभ प्राप्त करने के लिए उसे मिश्रण को (प्रति किलोग्राम) किस मूल्य पर बेचना चाहिए?

- Ans
- ✓ 1. ₹41
 - ✗ 2. ₹20
 - ✗ 3. ₹60
 - ✗ 4. ₹35

Question ID : 264330155997
Option 1 ID : 264330611390
Option 2 ID : 264330611389
Option 3 ID : 264330611387
Option 4 ID : 264330611388
Status : Answered
Chosen Option : 1

Q.10 p और q का लघुत्तम समापवर्त्य (LCM) r है। p^2q और pq^2 का लघुत्तम समापवर्त्य _____ है।

- Ans
- ✗ 1. pq
 - ✗ 2. pqr^3
 - ✓ 3. pqr
 - ✗ 4. pqr^2

Question ID : 264330156247
Option 1 ID : 264330612387
Option 2 ID : 264330612390
Option 3 ID : 264330612388
Option 4 ID : 264330612389
Status : Answered
Chosen Option : 3

Q.11 A, B और C एक काम को क्रमशः 10, 15 और 20 दिनों में पूरा कर सकते हैं। वे एक दिन छोड़कर इस प्रकार काम करते हैं कि पहले दिन A, दूसरे दिन B और तीसरे दिन C काम करता है। एक बार फिर चौथे दिन A, पांचवे दिन B भी इसी क्रम में आगे काम करते हैं। यदि वे इसी प्रकार काम करते हैं, तो काम कितने दिनों में पूरा होगा?

- Ans
- ✓ 1. $13\frac{1}{2}$
 - ✗ 2. $13\frac{1}{4}$
 - ✗ 3. 15
 - ✗ 4. 14

Question ID : 264330154060
Option 1 ID : 264330603706
Option 2 ID : 264330603704
Option 3 ID : 264330603705
Option 4 ID : 264330603703
Status : Answered
Chosen Option : 1

Q.12 एक बर्तन में द्रव A और द्रव B का अनुपात 4 : 9 है। यदि बर्तन में 8 लीटर द्रव A मिलाया जाता है, तो नया अनुपात 8 : 9 हो जाता है। मूल मिश्रण में द्रव A की मात्रा (लीटर में) ज्ञात कीजिए।

- Ans**
- 1. 6
 - 2. 9
 - 3. 8
 - 4. 12

Question ID : 264330155729
Option 1 ID : 264330610322
Option 2 ID : 264330610320
Option 3 ID : 264330610321
Option 4 ID : 264330610319
Status : Answered
Chosen Option : 3

Q.13 उस घनाभ का कुल पृष्ठीय क्षेत्रफल ज्ञात कीजिए जिसके आयाम 18 m, 6 m और 3 m हैं।

- Ans**
- 1. 90 m²
 - 2. 180 m²
 - 3. 324 m²
 - 4. 360 m²

Question ID : 264330153898
Option 1 ID : 264330603056
Option 2 ID : 264330603055
Option 3 ID : 264330603058
Option 4 ID : 264330603057
Status : Answered
Chosen Option : 4

Q.14 दो रेलगाड़ियां एक स्टेशन से एक ही समय पर एक ही दिशा में 90 km/h और 80 km/h की चाल से चलती हैं। 5 घंटे बाद दोनों रेलगाड़ियों के बीच की दूरी क्या होगी?

- Ans**
- 1. 50 km
 - 2. 40 km
 - 3. 45 km
 - 4. 55 km

Question ID : 264330155971
Option 1 ID : 264330611283
Option 2 ID : 264330611284
Option 3 ID : 264330611286
Option 4 ID : 264330611285
Status : Answered
Chosen Option : 1

Q.15 एक किराना विक्रेता ₹300 प्रति किलोग्राम और ₹160 प्रति किलोग्राम की दो किस्मों की चाय को इस अनुपात में मिलाता है कि मिश्रण को ₹187 प्रति किलोग्राम की दर से बेचने पर दुकानदार 10% का लाभ अर्जित करता है। किराना विक्रेता दोनों किस्म की चाय को क्रमशः किस अनुपात में मिलाता है?

- Ans**
- 1. 13 : 2
 - 2. 1 : 13
 - 3. 2 : 13
 - 4. 13 : 3

Question ID : 264330154118
Option 1 ID : 264330603935
Option 2 ID : 264330603938
Option 3 ID : 264330603936
Option 4 ID : 264330603937
Status : Answered
Chosen Option : 2

Q.16 निम्नलिखित में से किस व्यंजक का मान 0 के बराबर है?

- Ans**
- 1. $(2 \times 3 - 5 - (1 + 2(3 - 2 \times 2)))$
 - 2. $(2 \times 3 - 5 - (1 - 2(3 - 2 \times 2)))$
 - 3. $(2 \times 3 - 5 + (1 + 2(3 - 2 \times 2)))$
 - 4. $(2 \times 3 + 5 - (1 - 2(3 - 2 \times 2)))$

Question ID : 264330153796
Option 1 ID : 264330602648
Option 2 ID : 264330602647
Option 3 ID : 264330602649
Option 4 ID : 264330602650
Status : Answered
Chosen Option : 3

Q.17 युग $\frac{3}{4}$ घंटे में 56 km/h की चाल से एक निश्चित दूरी तय करता है। यदि वह वही दूरी 7 घंटे में तय करना चाहता है, तो उसकी चाल (km/h में) क्या होगी?

- Ans**
- 1. 16
 - 2. 20
 - 3. 12
 - 4. 14

Question ID : 264330155752
Option 1 ID : 264330610413
Option 2 ID : 264330610414
Option 3 ID : 264330610411
Option 4 ID : 264330610412
Status : Answered
Chosen Option : 3

Q.18 दी गई तालिका का अध्ययन कीजिए और नीचे दिए गए प्रश्न का उत्तर दीजिए।
तालिका में चार अलग-अलग गांवों P, Q, R, S में मतदाताओं की संख्या को दर्शाया गया है।

गांव	पंजीकृत मतदाताओं की कुल संख्या	मतदान करने वालों का प्रतिशत (पंजीकृत मतदाताओं की कुल संख्या में से)
P	1100	68
Q	1450	62
R	1200	73
S	1124	87

गांव P में मतदान न करने वालों की संख्या, गांव R में मतदान न करने वालों की संख्या से कितने प्रतिशत अधिक है?

Ans

✓ 1. $8\frac{52}{81}\%$

✗ 2. $6\frac{52}{81}\%$

✗ 3. $7\frac{52}{81}\%$

✗ 4. $9\frac{52}{81}\%$

Question ID : 264330157907

Option 1 ID : 264330618989

Option 2 ID : 264330618987

Option 3 ID : 264330618988

Option 4 ID : 264330618990

Status : Answered

Chosen Option : 1

Q.19 एक व्यक्ति एक टेबल फैन ₹2,800 में खरीदता है और उसे 12% की हानि पर बेचता है। टेबल फैन का विक्रय मूल्य क्या है?

Ans

✗ 1. ₹2,466

✗ 2. ₹2,468

✓ 3. ₹2,464

✗ 4. ₹2,462

Question ID : 264330156220

Option 1 ID : 264330612281

Option 2 ID : 264330612282

Option 3 ID : 264330612280

Option 4 ID : 264330612279

Status : Answered

Chosen Option : 3

Q.20 20 पुरुष एक काम को 40 दिनों में पूरा कर सकते हैं, और 40 महिलाएं उसी काम को 60 दिनों में पूरा कर सकती हैं। यदि 10 पुरुष और 20 महिलाएं साथ मिलकर काम करते हैं, तो काम कितने दिनों में पूरा होगा?

- Ans**
- ✓ 1. 48
 - ✗ 2. 40
 - ✗ 3. 50
 - ✗ 4. 60

Question ID : 264330156012
Option 1 ID : 264330611449
Option 2 ID : 264330611448
Option 3 ID : 264330611450
Option 4 ID : 264330611447
Status : Answered
Chosen Option : 1

Section : Reasoning Ability and Problem Solving

Q.1 उस शब्द-युग्म का चयन कीजिए जो नीचे दिए गए शब्दों के युग्म में व्यक्त किए गए समान संबंध का सबसे अच्छा निरूपण करता है।

(शब्दों को अर्थपूर्ण हिंदी शब्दों के रूप में माना जाना चाहिए और उन्हें शब्द में अक्षरों की संख्या/व्यंजन/स्वरों की संख्या के आधार पर एक दूसरे से संबंधित नहीं किया जाना चाहिए।)

सराहना : प्रशंसा करना

- Ans**
- ✗ 1. रिझाना : ठुकरा देना
 - ✓ 2. दावत देना : खातिर करना
 - ✗ 3. सिखाना : सीखना
 - ✗ 4. सुंदर बनाना : तरीताज़ा करना

Question ID : 264330154640
Option 1 ID : 264330606026
Option 2 ID : 264330606023
Option 3 ID : 264330606024
Option 4 ID : 264330606025
Status : Answered
Chosen Option : 2

Q.2 नीचे दिए गए कथन/कथनों और निष्कर्षों को ध्यानपूर्वक पढ़िए। आपको मानना है कि दिए गए कथन सत्य हैं चाहे वे समान्यतः ज्ञात तथ्यों से अलग प्रतीत होते हों। आपको निश्चय करना है कि कौन-सा/कौन-से निष्कर्ष तार्किक रूप से दिए गए कथन/कथनों के अनुसार है/हैं।

कथन: सभी कलाकार, लड़कियां हैं। सभी लड़कियां, खूबसूरत हैं।

निष्कर्ष:

- (I) सभी कलाकार, खूबसूरत हैं।
- (II) कुछ लड़कियां, कलाकार हैं।

Ans

- ✗ 1. केवल निष्कर्ष (II) कथनों के अनुसार है।
- ✗ 2. केवल निष्कर्ष (I) कथनों के अनुसार है।
- ✓ 3. दोनों निष्कर्ष (I) और (II) कथनों के अनुसार हैं।
- ✗ 4. न तो निष्कर्ष (I) और न ही (II) कथनों के अनुसार है।

Question ID : 264330154431

Option 1 ID : 264330605188

Option 2 ID : 264330605187

Option 3 ID : 264330605190

Option 4 ID : 264330605189

Status : Answered

Chosen Option : 3

KD Job Updates

Q.3 यदि निम्नलिखित आकृति श्रृंखला को जारी रखना हो तो कौन-सी आकृति प्रश्न चिन्ह (?) के स्थान पर आनी चाहिए?

P	E	8	↑	8	3	3	8	↑	E	↑	□	
	□		P		□		3					?
↑	A	3	□	E	A	E	A	□	8	A		

Ans

✗ 1.

□	E	↑
	L	
8	A	□

✗ 2.

□	E	↑
	□	
8	A	3

✓ 3.

□	↑	E
	L	
8	A	□

✗ 4.

□	↑	E
	□	
8	A	3

Question ID : 264330154734

Option 1 ID : 264330606399

Option 2 ID : 264330606401

Option 3 ID : 264330606402

Option 4 ID : 264330606400

Status : Answered

Chosen Option : 3

Q.4 एक निश्चित कूट भाषा में, 'LIAR' को '5148' लिखा जाता है और 'REAL' को '1582' लिखा जाता है। उसी कूट भाषा में 'E' को कैसे लिखा जाएगा?

Ans ✗ 1. 5

✓ 2. 2

✗ 3. 8

✗ 4. 1

Question ID : 264330151702

Option 1 ID : 264330594437

Option 2 ID : 264330594438

Option 3 ID : 264330594436

Option 4 ID : 264330594435

Status : Answered

Chosen Option : 2

Q.5 एक निश्चित तर्क के अनुसार 2, 40 से संबंधित है। समान तर्क के अनुसार, 5, 250 से संबंधित है। समान तर्क का अनुसरण करते हुए 7 निम्नलिखित में से किससे संबंधित है?

- Ans**
- 1. 400
 - 2. 490
 - 3. 450
 - 4. 470

Question ID : 264330151579
Option 1 ID : 264330593943
Option 2 ID : 264330593946
Option 3 ID : 264330593944
Option 4 ID : 264330593945
Status : Answered
Chosen Option : 2

Q.6 दी गई श्रृंखला में प्रश्न चिह्न '?' के स्थान पर क्या आना चाहिए?

978 967 956 945 934 ?

- Ans**
- 1. 924
 - 2. 921
 - 3. 922
 - 4. 923

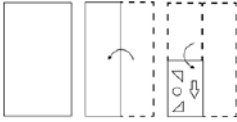
Question ID : 264330151553
Option 1 ID : 264330593842
Option 2 ID : 264330593839
Option 3 ID : 264330593840
Option 4 ID : 264330593841
Status : Answered
Chosen Option : 4

Q.7 यदि शब्द 'CATEGORY' के प्रत्येक अक्षर को अंग्रेजी वर्णमाला के क्रम में व्यवस्थित किया जाए तो कितने अक्षरों का स्थान अपरिवर्तित रहेगा?

- Ans**
- 1. एक
 - 2. दो
 - 3. तीन
 - 4. किसी का भी नहीं

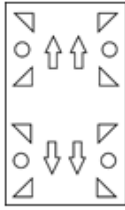
Question ID : 264330154327
Option 1 ID : 264330604772
Option 2 ID : 264330604771
Option 3 ID : 264330604774
Option 4 ID : 264330604773
Status : Answered
Chosen Option : 2

Q.8 निम्नलिखित आकृतियों में एक कागज़ के टुकड़े को मोड़ने के क्रम और मुड़े हुए कागज़ को काटने के तरीके को दर्शाया गया है। खोलने पर यह कागज़ कैसा दिखाई देगा?

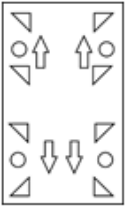


Ans

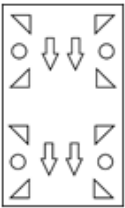
✓ 1.



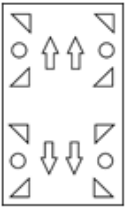
✗ 2.



✗ 3.



✗ 4.



Question ID : 264330155613

Option 1 ID : 264330609858

Option 2 ID : 264330609857

Option 3 ID : 264330609855

Option 4 ID : 264330609856

Status : Answered

Chosen Option : 1

Q.9 यदि G का अर्थ -, D का अर्थ ×, A का अर्थ +, B का अर्थ = है, तो निम्नलिखित समीकरण में प्रश्न चिह्न (?) के स्थान पर क्या आएगा?
19 D 6 B 34 A 2 G 27 = ?

Ans ✗ 1. 126

✓ 2. 104

✗ 3. 83

✗ 4. 65

Question ID : 264330154688

Option 1 ID : 264330606218

Option 2 ID : 264330606217

Option 3 ID : 264330606215

Option 4 ID : 264330606216

Status : Answered

Chosen Option : 2

Q.10 यदि '+' और 'x' को आपस में बदल दिया जाए और '-' और '/' को आपस में बदल दिया जाए तो निम्नलिखित समीकरण में '?' के स्थान पर क्या आएगा?
 $18 - 9 \div 4 \times 3 + 5 = ?$

- Ans
- 1. 18
 - 2. 17
 - 3. 13
 - 4. 19

Question ID : 264330154670
Option 1 ID : 264330606144
Option 2 ID : 264330606145
Option 3 ID : 264330606143
Option 4 ID : 264330606146
Status : Answered
Chosen Option : 3

Q.11 दी गई श्रृंखला में प्रश्न चिन्ह '?' के स्थान पर क्या आना चाहिए?

13 52 169 520 1573 ?

- Ans
- 1. 4781
 - 2. 4732
 - 3. 4895
 - 4. 4863


Question ID : 264330151477
Option 1 ID : 264330593536
Option 2 ID : 264330593535
Option 3 ID : 264330593538
Option 4 ID : 264330593537
Status : Answered
Chosen Option : 2

Q.12 एक निश्चित कूट भाषा में, 'YJM' को '26-11-14' लिखा जाता है और 'SOP' को '20-16-17' लिखा जाता है। उस कूट भाषा में 'BTX' को कैसे लिखा जाएगा?

- Ans
- 1. 5-22-24
 - 2. 5-23-25
 - 3. 4-22-24
 - 4. 3-21-25

Question ID : 264330155822
Option 1 ID : 264330610694
Option 2 ID : 264330610693
Option 3 ID : 264330610692
Option 4 ID : 264330610691
Status : Answered
Chosen Option : 4

Q.13 दी गई आकृति के उस सही दर्पण प्रतिबिंब को चुनिए, जो नीचे दर्शाए गए अनुसार दर्पण को MN पर रखने पर बनेगा।



- Ans
- 1. a u e e h R
 - 2. a n e e h R
 - 3. a u e e h R
 - 4. a u e e h R

Question ID : 264330151512

Option 1 ID : 264330593677

Option 2 ID : 264330593678

Option 3 ID : 264330593675

Option 4 ID : 264330593676

Status : Answered

Chosen Option : 2

Q.14 दी गई श्रृंखला में प्रश्न चिन्ह '?' के स्थान पर क्या आना चाहिए?

3 20 54 ? 258 530 1074

- Ans
- 1. 118
 - 2. 122
 - 3. 128
 - 4. 124

Question ID : 264330151499

Option 1 ID : 264330593623

Option 2 ID : 264330593624

Option 3 ID : 264330593626

Option 4 ID : 264330593625

Status : Answered

Chosen Option : 2

Q.15 J, K, P, Q, R और M एक वृत्ताकार मेज के चारों ओर केंद्र की ओर मुख करके बैठे हैं। J, M के ठीक बाईं ओर बैठा है। R, J के बाईं ओर से दूसरे स्थान पर बैठा है। K, J के दाईं ओर से तीसरे स्थान पर बैठा है। P, R के ठीक दाईं ओर बैठा है। K के बाईं ओर से दूसरे स्थान पर कौन बैठा है?

- Ans
- 1. R
 - 2. M
 - 3. P
 - 4. Q

Question ID : 264330155651

Option 1 ID : 264330610007

Option 2 ID : 264330610009

Option 3 ID : 264330610008

Option 4 ID : 264330610010

Status : Answered

Chosen Option : 2

Q.16 अक्षरों के उस संयोजन को चुनिए जिसे दी गई श्रृंखला के रिक्त स्थानों में क्रमिक रूप से रखने पर श्रृंखला पूरी हो जाएगी।

R__RT_R_R_TR

- Ans
- 1. RTRRT
 - 2. TTTRR
 - 3. RTTTR
 - 4. TRRTR

Question ID : 264330151641

Option 1 ID : 264330594194

Option 2 ID : 264330594191

Option 3 ID : 264330594192

Option 4 ID : 264330594193

Status : Answered

Chosen Option : 4

Q.17 अक्षरों के उस संयोजन को चुनिए जिसे दी गई श्रृंखला के रिक्त स्थानों में क्रमिक रूप से रखने पर श्रृंखला तार्किक रूप से पूरी हो जाएगी।

KC_OK_PO_YSOKWW_ K_YO

- Ans
- 1. LJMST
 - 2. MDHTV
 - 3. KJNVL
 - 4. MAKOU

Question ID : 264330156319

Option 1 ID : 264330612677

Option 2 ID : 264330612676

Option 3 ID : 264330612675

Option 4 ID : 264330612678

Status : Answered

Chosen Option : 4

Q.18 निम्नलिखित संख्या-युग्मों में, पहली संख्या पर कुछ गणितीय संक्रियाएँ करके दूसरी संख्या प्राप्त की जाती है। उस समुच्चय को चुनिए जिसमें संख्याएँ ठीक उसी प्रकार संबंधित हैं जिस प्रकार निम्नलिखित समुच्चयों की संख्याएँ संबंधित हैं।

(ध्यान दें: संख्याओं को उनके घटक अंकों में अलग-अलग किए बिना, पूर्ण संख्याओं पर संक्रियाएँ की जानी चाहिए। उदा. 13 - संख्या 13 पर संक्रियाएँ जैसे 13 को जोड़ना/घटाना/गुणा करना आदि किया जा सकता है। 13 को 1 और 3 में अलग-अलग करने की और फिर 1 और 3 पर गणितीय संक्रियाएँ करने की अनुमति नहीं है।)

65, 74

87, 96

- Ans
- 1. 92, 101
 - 2. 81, 156
 - 3. 75, 123
 - 4. 63, 157

Question ID : 264330151622

Option 1 ID : 264330594115

Option 2 ID : 264330594116

Option 3 ID : 264330594117

Option 4 ID : 264330594118

Status : Answered

Chosen Option : 1

Q.19 नीचे दिए गए कथनों और निष्कर्षों को ध्यानपूर्वक पढ़िए। आपको मानना है कि दिए गए कथन सत्य हैं चाहे वे समान्यतः ज्ञात तथ्यों से अलग प्रतीत होते हों। आपको निश्चय करना है कि कौन-सा/कौन-से निष्कर्ष तार्किक रूप से दिए गए कथनों के अनुसार है/हैं।

कथन: सभी कौवे, गौरिया हैं। कुछ गौरिया, तोते हैं। सभी तोते, पीले हैं।

निष्कर्ष I: कुछ कौवे, तोते हैं।

निष्कर्ष II: कुछ पीले, तोते हैं।

- Ans**
- 1. न तो निष्कर्ष (I) और न ही (II) कथनों के अनुसार है।
 - 2. दोनों निष्कर्ष (I) और (II) कथनों के अनुसार हैं।
 - 3. केवल निष्कर्ष (I) कथनों के अनुसार है।
 - 4. केवल निष्कर्ष (II) कथनों के अनुसार है।

Question ID : 264330155929

Option 1 ID : 264330611121

Option 2 ID : 264330611122

Option 3 ID : 264330611119

Option 4 ID : 264330611120

Status : Answered

Chosen Option : 4

Q.20 अंग्रेजी वर्णमाला क्रम के आधार पर दी गई श्रृंखला में प्रश्न चिह्न (?) के स्थान पर क्या आना चाहिए?

ETM, AWO, WZQ, SCS, ?

- Ans**
- 1. MEV
 - 2. MEU
 - 3. OFU
 - 4. NFV

Question ID : 264330155807

Option 1 ID : 264330610633

Option 2 ID : 264330610632

Option 3 ID : 264330610634

Option 4 ID : 264330610631

Status : Answered

Chosen Option : 3

Section : General Awareness

Q.1 गुआ (Gua) और नोआमुंडी (Noamundi) खदानें भारत के किस राज्य में स्थित हैं ?

- Ans**
- 1. हरियाणा
 - 2. झारखंड
 - 3. राजस्थान
 - 4. असम

Question ID : 264330161527

Option 1 ID : 264330633438

Option 2 ID : 264330633436

Option 3 ID : 264330633437

Option 4 ID : 264330633435

Status : Answered

Chosen Option : 2

Q.2 बिरसा मुंडा हॉकी स्टेडियम भारत के सबसे बड़े हॉकी स्टेडियमों में से एक है। यह स्टेडियम किस राज्य में स्थित है?

- Ans
- 1. बिहार
 - 2. मध्यप्रदेश
 - 3. ओडिशा
 - 4. छत्तीसगढ़

Question ID : 264330158355
Option 1 ID : 264330620779
Option 2 ID : 264330620781
Option 3 ID : 264330620782
Option 4 ID : 264330620780
Status : Answered
Chosen Option : 3

Q.3 संविधान (अनुसूचित जाति और अनुसूचित जनजाति) आदेश (दूसरा संशोधन) विधेयक, 2022, दिसंबर 2022 में पारित किया गया था और यह किस राज्य से संबंधित है?

- Ans
- 1. उत्तरप्रदेश
 - 2. उत्तराखंड
 - 3. बिहार
 - 4. कर्नाटक

Question ID : 264330158334
Option 1 ID : 264330620695
Option 2 ID : 264330620696
Option 3 ID : 264330620698
Option 4 ID : 264330620697
Status : Answered
Chosen Option : 4

Q.4 स्वस्थ प्रतिरक्षा प्रणाली, कम प्रकाश में देखने की क्षमता (low-light vision) और स्वस्थ त्वचा के लिए कौन-सा विटामिन आवश्यक है?

- Ans
- 1. विटामिन K
 - 2. विटामिन B9
 - 3. विटामिन A
 - 4. विटामिन B2

Question ID : 264330160991
Option 1 ID : 264330631296
Option 2 ID : 264330631297
Option 3 ID : 264330631295
Option 4 ID : 264330631298
Status : Answered
Chosen Option : 2

Q.5 भारत ने निम्नलिखित में से किस देश को हराकर अपना पहला महिला जूनियर हॉकी एशिया कप खिताब (maiden Women's Junior Hockey Asia Cup title) जीता?

- Ans
- 1. चीनी ताइपी
 - 2. जापान
 - 3. दक्षिण कोरिया
 - 4. मलेशिया

Question ID : 264330161129
Option 1 ID : 264330631850
Option 2 ID : 264330631848
Option 3 ID : 264330631847
Option 4 ID : 264330631849
Status : Answered
Chosen Option : 3

Q.6 बुद्ध पूर्णिमा हिंदू महीने _____ में पूर्णिमा के दिन मनाई जाती है।

- Ans
- 1. वैसाख
 - 2. ज्येष्ठ
 - 3. भद्र
 - 4. आषाढ़

Question ID : 264330160830
Option 1 ID : 264330630651
Option 2 ID : 264330630652
Option 3 ID : 264330630654
Option 4 ID : 264330630653
Status : Answered
Chosen Option : 1

Q.7 गोविंद सागर (भाखड़ा नांगल परियोजना) किस राज्य में स्थित है?

- Ans
- 1. पंजाब
 - 2. गुजरात
 - 3. हिमाचल प्रदेश
 - 4. राजस्थान

Question ID : 264330160140
Option 1 ID : 264330627899
Option 2 ID : 264330627902
Option 3 ID : 264330627900
Option 4 ID : 264330627901
Status : Answered
Chosen Option : 3

Q.8 निदेशक सिद्धांतों को मोटे तौर पर तीन व्यापक श्रेणियों में वर्गीकृत किया गया है। निम्नलिखित में से कौन-सा इस वर्गीकरण का हिस्सा नहीं है?

- Ans
- 1. समाजवादी (Socialistic)
 - 2. गांधीवादी (Gandhian)
 - 3. सत्तावादी (Authoritative)
 - 4. उदारवादी (Liberal)

Question ID : 264330160859
Option 1 ID : 264330630767
Option 2 ID : 264330630768
Option 3 ID : 264330630770
Option 4 ID : 264330630769
Status : Answered
Chosen Option : 3

Q.9 अरब सागर निम्नलिखित में से किस महासागर का विस्तार है?

- Ans
- 1. आर्कटिक महासागर
 - 2. दक्षिणी महासागर
 - 3. प्रशांत महासागर
 - 4. हिंद महासागर

Question ID : 264330157836

Option 1 ID : 264330618705

Option 2 ID : 264330618706

Option 3 ID : 264330618703

Option 4 ID : 264330618704

Status : Answered

Chosen Option : 4

Q.10 आवर्त सारणी के समूह 1 की कौन-सी नरम धातु हवा के संपर्क में आने के कुछ सेकंड के भीतर धूमिल हो जाती है?

- Ans
- 1. फ्रेन्सियम
 - 2. बेरियम
 - 3. स्ट्रॉन्शियम
 - 4. सोडियम

Question ID : 264330161054

Option 1 ID : 264330631550

Option 2 ID : 264330631548

Option 3 ID : 264330631547

Option 4 ID : 264330631549

Status : Answered

Chosen Option : 2

Q.11 बौद्ध काल का सबसे पुराना स्तूप कौन-सा है?

- Ans
- 1. धामेक स्तूप
 - 2. महाबोधि स्तूप
 - 3. सांची स्तूप
 - 4. केसरिया स्तूप

Question ID : 264330160761

Option 1 ID : 264330630378

Option 2 ID : 264330630375

Option 3 ID : 264330630377

Option 4 ID : 264330630376

Status : Answered

Chosen Option : 3

Q.12 निम्नलिखित में से कौन-सा भारत में सूक्ष्म वित्त संस्थानों (MFIs) का एक आयाम है?

- Ans
- 1. ऋण ब्याज दरें
 - 2. शेयर बाज़ार में निवेश
 - 3. क्रेडिट कार्ड की उपलब्धता
 - 4. ग्रामीण क्षेत्रों तक पहुंच

Question ID : 264330157292
Option 1 ID : 264330616531
Option 2 ID : 264330616533
Option 3 ID : 264330616532
Option 4 ID : 264330616534
Status : Answered
Chosen Option : 1

Q.13 नटवरी नृत्य किस नृत्य शैली से संबंधित है ?

- Ans
- 1. कथकली
 - 2. कथक
 - 3. कुचिपुडी
 - 4. ओडिसी

Question ID : 264330159053
Option 1 ID : 264330623573
Option 2 ID : 264330623572
Option 3 ID : 264330623574
Option 4 ID : 264330623571
Status : Answered
Chosen Option : 2

Q.14 वित्तीय वर्ष (fiscal year) क्या है?

- Ans
- 1. वह वर्ष जिसमें कर की दरों में वृद्धि की जाती है
 - 2. सरकार के लिए वित्तीय रिपोर्टिंग अवधि को दर्शाने वाला वर्ष
 - 3. सरकारी राजस्व में घाटे वाला एक वर्ष
 - 4. सरकारी राजस्व में अधिशेष वाला एक वर्ष

Question ID : 264330157272
Option 1 ID : 264330616453
Option 2 ID : 264330616454
Option 3 ID : 264330616452
Option 4 ID : 264330616451
Status : Answered
Chosen Option : 3

Q.15 पुरुष हैंडबॉल खेल में बॉल का भार कितना होता है?

- Ans
- 1. 325 से 375 gm
 - 2. 425 से 475 gm
 - 3. 525 से 575 gm
 - 4. 225 से 275 gm

Question ID : 264330158248
Option 1 ID : 264330620351
Option 2 ID : 264330620353
Option 3 ID : 264330620354
Option 4 ID : 264330620352
Status : Answered
Chosen Option : 3

Q.16 निम्नलिखित में से किस वर्ष में पानीपत की तीसरी लड़ाई लड़ी गई थी?

- Ans
- 1. 1751
 - 2. 1786
 - 3. 1707
 - 4. 1761

Question ID : 264330161734
Option 1 ID : 264330634265
Option 2 ID : 264330634266
Option 3 ID : 264330634263
Option 4 ID : 264330634264
Status : Answered
Chosen Option : 4

Q.17 मेघालय की _____ जनजाति का 'का शाद मस्तीह (Ka Shad Mastieh)' या विजय नृत्य जनजाति के प्रमुख त्योहार के दौरान किया जाने वाला एक प्राचीन युद्ध नृत्य है।

- Ans
- 1. खासी (Khasi)
 - 2. जयंतिया (Jaintia)
 - 3. वार (War)
 - 4. भोई (Bhoi)

Question ID : 264330161345
Option 1 ID : 264330632708
Option 2 ID : 264330632707
Option 3 ID : 264330632710
Option 4 ID : 264330632709
Status : Answered
Chosen Option : 3

Q.18 'अनटचेबल' (Untouchable) उपन्यास किसके द्वारा लिखा गया है?

- Ans
- 1. प्रेमचंद
 - 2. बंकिम चंद्र चट्टोपाध्याय
 - 3. आर.सी. मजूमदार
 - 4. मुल्क राज आनंद

Question ID : 264330155498
Option 1 ID : 264330609398
Option 2 ID : 264330609397
Option 3 ID : 264330609396
Option 4 ID : 264330609395
Status : Answered
Chosen Option : 4

Q.19 निम्नलिखित में से 'सीता: एन इलस्ट्रेटेड रीटेलिंग ऑफ द रामायण' ('Sita: An Illustrated Retelling of the Ramayana') पुस्तक के लेखक कौन हैं?

- Ans
- 1. रविंदर सिंह
 - 2. दुर्जोय दत्ता
 - 3. देवदत्त पटनायक
 - 4. अमीश त्रिपाठी

Question ID : 264330155457
Option 1 ID : 264330609234
Option 2 ID : 264330609232
Option 3 ID : 264330609233
Option 4 ID : 264330609231
Status : Answered
Chosen Option : 4

Q.20 भारत में संसद के दोनों सदनों का चुनाव कौन कराता है?

- Ans
- 1. निर्वाचन आयोग
 - 2. संसदीय कार्य मंत्रालय
 - 3. प्रधानमंत्री
 - 4. राष्ट्रपति

Question ID : 264330160860
Option 1 ID : 264330630771
Option 2 ID : 264330630773
Option 3 ID : 264330630772
Option 4 ID : 264330630774
Status : Answered
Chosen Option : 1

Q.21 निम्नलिखित में से कौन-सी अफगानिस्तान की आधिकारिक भाषा है?

- Ans
- 1. दरी (Dari)
 - 2. बर्मी (Burmese)
 - 3. जोंगखा (Dzongkha)
 - 4. सिंहली (Sinhala)

Question ID : 264330160175
Option 1 ID : 264330628039
Option 2 ID : 264330628042
Option 3 ID : 264330628041
Option 4 ID : 264330628040
Status : Not Answered
Chosen Option : --

Q.22 पंडित रविशंकर निम्नलिखित में से किस संगीत वाद्ययंत्र को बजाने के लिए दुनिया भर में जाने जाते हैं?

- Ans
- 1. सितार
 - 2. सरोद
 - 3. मोहन वीणा
 - 4. बीन

Question ID : 264330161771
Option 1 ID : 264330634412
Option 2 ID : 264330634413
Option 3 ID : 264330634414
Option 4 ID : 264330634411
Status : Answered
Chosen Option : 1

Q.23 निम्नलिखित में से उस कुचिपुड़ी नर्तक/नर्तकी की पहचान कीजिए, जिसे वर्ष 2022 में 'पद्म श्री' से सम्मानित किया गया था।

- Ans
- 1. पद्मजा रेड्डी (Padmaja Reddy)
 - 2. डॉ. वीरास्वामी शेषैया (Dr. Veeraswamy Seshiah)
 - 3. विद्यानंद सारेक (Vidyanand Sarek)
 - 4. के.वी. राबिया (KV Rabiya)

Question ID : 264330155528
Option 1 ID : 264330609517
Option 2 ID : 264330609515
Option 3 ID : 264330609516
Option 4 ID : 264330609518
Status : Answered
Chosen Option : 1

Q.24 शंभू महाराज निम्नलिखित में से किस कथक घराने के प्रसिद्ध गुरु थे?

- Ans
- 1. बनारस
 - 2. जयपुर
 - 3. लखनऊ
 - 4. रायगढ़

Question ID : 264330160810
Option 1 ID : 264330630573
Option 2 ID : 264330630571
Option 3 ID : 264330630572
Option 4 ID : 264330630574
Status : Answered
Chosen Option : 3

Q.25 1927 में मंदिर प्रवेश आंदोलन किसने शुरू किया था?

- Ans 1. भीमराव अंबेडकर
 2. एनी बेसेंट
 3. महात्मा गांधी
 4. महादेव गोविंद रानाडे

Question ID : 264330162350
Option 1 ID : 264330636728
Option 2 ID : 264330636730
Option 3 ID : 264330636727
Option 4 ID : 264330636729
Status : Answered
Chosen Option : 4

Section : English Language and Comprehension

Q.1 Select the most appropriate synonym of the given word.
Obsession

- Ans 1. Fascination
 2. Sympathy
 3. Unconcern
 4. Discrimination

Question ID : 264330153559
Option 1 ID : 264330601737
Option 2 ID : 264330601738
Option 3 ID : 264330601735
Option 4 ID : 264330601736
Status : Answered
Chosen Option : 1

Q.2 Select the most appropriate idiom to fill in the blank.
Rajat is known for his notorious nature. He will be friendly to your face but likes _____.

- Ans 1. to blow his trumpet
 2. to paint the whole town red
 3. to get all bent out of the shape
 4. to stab you in the back

Question ID : 264330153562
Option 1 ID : 264330601750
Option 2 ID : 264330601749
Option 3 ID : 264330601747
Option 4 ID : 264330601748
Status : Answered
Chosen Option : 4

Q.3 The following sentence has been split into four segments. Identify the segment that contains a grammatical error.

The ball / I kicked / went highly / in the sky.

- Ans
- 1. The ball
 - 2. in the sky
 - 3. went highly
 - 4. I kicked

Question ID : 264330153184

Option 1 ID : 264330600295

Option 2 ID : 264330600298

Option 3 ID : 264330600297

Option 4 ID : 264330600296

Status : Answered

Chosen Option : 3

Q.4 Select the most appropriate idiom for the following sentence.

Shweta organises the sale of handmade pottery at a cheap rate.

- Ans
- 1. Go for a song
 - 2. Making a fuss out of something
 - 3. Hush money
 - 4. Having one's cake and eating it too

Question ID : 264330141303

Option 1 ID : 264330553548

Option 2 ID : 264330553550

Option 3 ID : 264330553547

Option 4 ID : 264330553549

Status : Answered

Chosen Option : 3

Q.5 Identify the INCORRECTLY spelt word in the following sentence and select its correct spelling from the given options.

The colours of the rainbow seemed to shine through the triangular prism as the sun hit the object.

- Ans
- 1. triangular
 - 2. rainbouw
 - 3. object
 - 4. son

Question ID : 264330153110

Option 1 ID : 264330600004

Option 2 ID : 264330600003

Option 3 ID : 264330600006

Option 4 ID : 264330600005

Status : Answered

Chosen Option : 1

Q.6 Select the most appropriate ANTONYM of the given word.
Guilty

- Ans 1. Innocent
 2. Patient
 3. Criminal
 4. Responsible

Question ID : 264330153364
Option 1 ID : 264330601008
Option 2 ID : 264330601007
Option 3 ID : 264330601010
Option 4 ID : 264330601009
Status : Answered
Chosen Option : 1

Q.7 The following sentence has been split into four segments. Identify the segment that contains a grammatical error and select the option which rectifies that error.

A lot of adulterants / are chemicals that can lead / to an range of health problems / in both children and adults.

- Ans 1. A lot of adulterant
 2. are chemical that can lead
 3. to a range of health problems
 4. in both children and adult.

Question ID : 264330141340
Option 1 ID : 264330553697
Option 2 ID : 264330553695
Option 3 ID : 264330553696
Option 4 ID : 264330553698
Status : Answered
Chosen Option : 3

Q.8 Select the most appropriate option to fill in the blank.
He is _____ of many chain snatching cases in Dariyaganj.

- Ans 1. akused
 2. acxused
 3. accused
 4. ackused

Question ID : 264330153306
Option 1 ID : 264330600779
Option 2 ID : 264330600780
Option 3 ID : 264330600782
Option 4 ID : 264330600781
Status : Answered
Chosen Option : 3

Q.9 Select the most appropriate idiom to fill in the blank.
The play I saw last night was a _____.

- Ans**
- 1. hit the roof
 - 2. hit the road
 - 3. hit the hay
 - 4. smash hit

Question ID : 264330153099
Option 1 ID : 264330599961
Option 2 ID : 264330599962
Option 3 ID : 264330599959
Option 4 ID : 264330599960
Status : Answered
Chosen Option : 4

Q.10 The given sentence contains an error. Select the option that correctly rectifies the error.
That career competition was the difficultest exam he had ever given.

- Ans**
- 1. That career competition was the most difficult exam he had ever given.
 - 2. That career competition was the most difficult exam than any he had ever given.
 - 3. That career competition was the difficultest exam than any he had ever given.
 - 4. That career competition was the most difficultest exam he had ever given.

Question ID : 264330152607
Option 1 ID : 264330598033
Option 2 ID : 264330598032
Option 3 ID : 264330598034
Option 4 ID : 264330598031
Status : Answered
Chosen Option : 1

Q.11 Select the most appropriate ANTONYM of the given word.
Ecstasy

- Ans**
- 1. Euphoria
 - 2. Natural
 - 3. Coarse
 - 4. Despair

Question ID : 264330152676
Option 1 ID : 264330598307
Option 2 ID : 264330598308
Option 3 ID : 264330598309
Option 4 ID : 264330598310
Status : Answered
Chosen Option : 4

Q.12 Select the option that can be used as a one-word substitute for the given group of words.

Study of sound and sound waves

- Ans
- 1. Acoustics
 - 2. Botany
 - 3. Physics
 - 4. Demography

Question ID : 264330152772
Option 1 ID : 264330598682
Option 2 ID : 264330598679
Option 3 ID : 264330598681
Option 4 ID : 264330598680
Status : Answered
Chosen Option : 1

Q.13 Select the most appropriate option to fill in the blank.

The students of class 7 gave their teacher a gift, which was _____ to her.

- Ans
- 1. revealing
 - 2. confusing
 - 3. shocking
 - 4. surprising

Question ID : 264330152580
Option 1 ID : 264330597923
Option 2 ID : 264330597926
Option 3 ID : 264330597925
Option 4 ID : 264330597924
Status : Answered
Chosen Option : 4

Q.14 Select the option that correctly rectifies the spelling error that is underlined.

The questionaire used by the researcher was of top quality.

- Ans
- 1. questionnairee
 - 2. questionnaire
 - 3. questionnaire
 - 4. quesstionnaire

Question ID : 264330153422
Option 1 ID : 264330601222
Option 2 ID : 264330601221
Option 3 ID : 264330601220
Option 4 ID : 264330601219
Status : Answered
Chosen Option : 3

Q.15 Select the most appropriate meaning of the given idiom.
Barking up the wrong tree

- Ans
- 1. To make a bad situation worse
 - 2. Provoke trouble
 - 3. To be mistaken, to be looking for solutions in the wrong place
 - 4. Getting a good start is important

Question ID : 264330153280
Option 1 ID : 264330600676
Option 2 ID : 264330600677
Option 3 ID : 264330600675
Option 4 ID : 264330600678
Status : Answered
Chosen Option : 3

Q.16 Select the most appropriate option that can substitute the underlined segment in the given sentence.

The airplane flowed over the mountains, offering the passengers a breath-taking view of the majestic peaks below.

- Ans
- 1. flowed beyond
 - 2. flew beyond
 - 3. flew over
 - 4. flowed above

Question ID : 264330151858
Option 1 ID : 264330595051
Option 2 ID : 264330595054
Option 3 ID : 264330595053
Option 4 ID : 264330595052
Status : Answered
Chosen Option : 3

Q.17 Select the option that can be used as a one-word substitute for the given group of words.

A creature which depends on others

- Ans
- 1. Bacteria
 - 2. Microbes
 - 3. Virus
 - 4. Parasite

Question ID : 264330152586
Option 1 ID : 264330597948
Option 2 ID : 264330597949
Option 3 ID : 264330597947
Option 4 ID : 264330597950
Status : Answered
Chosen Option : 4

Q.18 Select the most appropriate option that can substitute the underlined segment in the given sentence.

The intrepid group of adventurers climbed the mountain despite of bad weather and road closures.

- Ans
- 1. in spite
 - 2. due to
 - 3. in view of
 - 4. despite

Question ID : 264330151854
Option 1 ID : 264330595036
Option 2 ID : 264330595038
Option 3 ID : 264330595037
Option 4 ID : 264330595035
Status : Answered
Chosen Option : 4

Q.19 Select the most appropriate option that can substitute the underlined segment in the given sentence.

They would find someone drive the wagon back across the desert.

- Ans
- 1. to drive the
 - 2. to drive
 - 3. in drive in the
 - 4. in driving

Question ID : 264330153482
Option 1 ID : 264330601443
Option 2 ID : 264330601445
Option 3 ID : 264330601446
Option 4 ID : 264330601444
Status : Answered
Chosen Option : 1

Q.20 The following sentence has been split into four segments. Identify the segment that contains a grammatical error.

Despite the setbacks and obstacles we faced, / our team rallied together and achieved our goals, / which teach us the importance of / teamwork, resilience, and determination.

- Ans
- 1. Despite the setbacks and obstacles we faced,
 - 2. our team rallied together and achieved our goals,
 - 3. which teach us the importance of
 - 4. teamwork, resilience, and determination

Question ID : 264330144181
Option 1 ID : 264330564987
Option 2 ID : 264330564988
Option 3 ID : 264330564989
Option 4 ID : 264330564990
Status : Answered
Chosen Option : 3

Comprehension:

In the following passage, some words have been deleted. Read the passage carefully and select the most appropriate option to fill in each blank.

As a boy, I was always exploring lonely places—neglected gardens and orchards, unoccupied houses, patches of scrub or wasteland, the fields outside the town, the fringes of the forest. On one of my rambles (1)_____the bungalow, I pushed my way through a thicket of lantana bushes and stumbled over a thick stone slab, twisting my ankle slightly as I fell. For some time, I sat on the grass massaging my foot. When the pain eased, I looked more (2)_____ at the stone slab and was surprised to find that it was a gravestone. It was almost entirely covered by ivy; obviously no one had been near it for years. I tugged at the ivy and some of it came away in my hands. There was some (3)_____ lettering on the grave, half-obscured by grass and moss. I could make out a name—Rose—but little more. I sat there for some time, (4)_____ over my discovery. I was wondering why 'Rose' should have been buried at so lonely a spot when there was a (5)_____ not far away.

SubQuestion No : 21

Q.21 Select the most appropriate option to fill in blank number 1.

- Ans
- 1. before
 - 2. below
 - 3. behind
 - 4. by dint of

Question ID : 264330153544

Option 1 ID : 264330601676

Option 2 ID : 264330601675

Option 3 ID : 264330601678

Option 4 ID : 264330601677

Status : Answered

Chosen Option : 3

Comprehension:

In the following passage, some words have been deleted. Read the passage carefully and select the most appropriate option to fill in each blank.

As a boy, I was always exploring lonely places—neglected gardens and orchards, unoccupied houses, patches of scrub or wasteland, the fields outside the town, the fringes of the forest. On one of my rambles (1)_____the bungalow, I pushed my way through a thicket of lantana bushes and stumbled over a thick stone slab, twisting my ankle slightly as I fell. For some time, I sat on the grass massaging my foot. When the pain eased, I looked more (2)_____ at the stone slab and was surprised to find that it was a gravestone. It was almost entirely covered by ivy; obviously no one had been near it for years. I tugged at the ivy and some of it came away in my hands. There was some (3)_____ lettering on the grave, half-obscured by grass and moss. I could make out a name—Rose—but little more. I sat there for some time, (4)_____ over my discovery. I was wondering why 'Rose' should have been buried at so lonely a spot when there was a (5)_____ not far away.

SubQuestion No : 22

Q.22 Select the most appropriate option to fill in blank number 2.

- Ans
- 1. closely
 - 2. frankly
 - 3. emptily
 - 4. lawfully

Question ID : 264330153545

Option 1 ID : 264330601681

Option 2 ID : 264330601680

Option 3 ID : 264330601679

Option 4 ID : 264330601682

Status : Answered

Chosen Option : 1

Comprehension:

In the following passage, some words have been deleted. Read the passage carefully and select the most appropriate option to fill in each blank.

As a boy, I was always exploring lonely places—neglected gardens and orchards, unoccupied houses, patches of scrub or wasteland, the fields outside the town, the fringes of the forest. On one of my rambles (1)_____the bungalow, I pushed my way through a thicket of lantana bushes and stumbled over a thick stone slab, twisting my ankle slightly as I fell. For some time, I sat on the grass massaging my foot. When the pain eased, I looked more (2)_____ at the stone slab and was surprised to find that it was a gravestone. It was almost entirely covered by ivy; obviously no one had been near it for years. I tugged at the ivy and some of it came away in my hands. There was some (3)_____ lettering on the grave, half-obscured by grass and moss. I could make out a name—Rose—but little more. I sat there for some time, (4)_____ over my discovery. I was wondering why 'Rose' should have been buried at so lonely a spot when there was a (5)_____ not far away.

SubQuestion No : 23

Q.23 Select the most appropriate option to fill in blank number 3.

- Ans 1. idiotic
 2. blurred
 3. nomadic
 4. sturdy

Question ID : 264330153546

Option 1 ID : 264330601686

Option 2 ID : 264330601684

Option 3 ID : 264330601685

Option 4 ID : 264330601683

Status : Answered

Chosen Option : 2

Comprehension:

In the following passage, some words have been deleted. Read the passage carefully and select the most appropriate option to fill in each blank.

As a boy, I was always exploring lonely places—neglected gardens and orchards, unoccupied houses, patches of scrub or wasteland, the fields outside the town, the fringes of the forest. On one of my rambles (1)_____the bungalow, I pushed my way through a thicket of lantana bushes and stumbled over a thick stone slab, twisting my ankle slightly as I fell. For some time, I sat on the grass massaging my foot. When the pain eased, I looked more (2)_____ at the stone slab and was surprised to find that it was a gravestone. It was almost entirely covered by ivy; obviously no one had been near it for years. I tugged at the ivy and some of it came away in my hands. There was some (3)_____ lettering on the grave, half-obscured by grass and moss. I could make out a name—Rose—but little more. I sat there for some time, (4)_____ over my discovery. I was wondering why 'Rose' should have been buried at so lonely a spot when there was a (5)_____ not far away.

SubQuestion No : 24

Q.24 Select the most appropriate option to fill in blank number 4.

- Ans 1. sleeping
 2. pulling
 3. being
 4. pondering

Question ID : 264330153547

Option 1 ID : 264330601690

Option 2 ID : 264330601689

Option 3 ID : 264330601688

Option 4 ID : 264330601687

Status : Answered

Chosen Option : 4

Comprehension:

In the following passage, some words have been deleted. Read the passage carefully and select the most appropriate option to fill in each blank.

As a boy, I was always exploring lonely places—neglected gardens and orchards, unoccupied houses, patches of scrub or wasteland, the fields outside the town, the fringes of the forest. On one of my rambles (1)_____the bungalow, I pushed my way through a thicket of lantana bushes and stumbled over a thick stone slab, twisting my ankle slightly as I fell. For some time, I sat on the grass massaging my foot. When the pain eased, I looked more (2)_____ at the stone slab and was surprised to find that it was a gravestone. It was almost entirely covered by ivy; obviously no one had been near it for years. I tugged at the ivy and some of it came away in my hands. There was some (3)_____ lettering on the grave, half-obscured by grass and moss. I could make out a name—Rose—but little more. I sat there for some time, (4)_____ over my discovery. I was wondering why 'Rose' should have been buried at so lonely a spot when there was a (5)_____ not far away.

SubQuestion No : 25

Q.25 Select the most appropriate option to fill in blank number 5.

- Ans
- 1. kennel
 - 2. dormitory
 - 3. cemetery
 - 4. sanctuary

Question ID : 264330153548

Option 1 ID : 264330601691

Option 2 ID : 264330601694

Option 3 ID : 264330601693

Option 4 ID : 264330601692

Status : Answered

Chosen Option : 3

KD Job Update

Multi Tasking Non Technical Staff and Havaladar CBIC and CBN Examination 2023

Roll Number	KD Job Updates
Candidate Name	KD Job Updates
Venue Name	Ikon Digital
Exam Date	04/09/2023
Exam Time	4:00 PM - 6:00 PM
Subject	MTS Non Tech Havaladar CBIC and CBN Examination 2023

Section : Numerical and Mathematical Ability

Q.1 एक नाविक धारा के विपरीत 2 घंटे में 6 km जाता है और धारा की दिशा में 7.5 मिनट में 1.5 km जाता है। स्थिर जल में 30 km जाने में उसे कितना समय (घंटों में) लगेगा?

- Ans**
- 1. 3.5
 - 2. 2.5
 - 3. 3.0
 - 4. 4.0

Question ID : 264330153776
Option 1 ID : 264330602570
Option 2 ID : 264330602569
Option 3 ID : 264330602568
Option 4 ID : 264330602567
Status : Answered
Chosen Option : 4

Q.2 यदि P अकेले किसी काम को 3 घंटे में पूरा कर सकता है और Q अकेले उसी काम को 6 घंटे में पूरा सकता है, तो वे दोनों साथ मिलकर उस काम को x मिनट में पूरा करेंगे। x का मान ज्ञात कीजिए।

- Ans**
- 1. 120
 - 2. 100
 - 3. 150
 - 4. 160

Question ID : 264330155972
Option 1 ID : 264330611288
Option 2 ID : 264330611290
Option 3 ID : 264330611287
Option 4 ID : 264330611289
Status : Answered
Chosen Option : 1

Q.3 एक पुरुष एक काम को 12 दिनों में पूरा कर सकता है और एक महिला उसी काम को 10 दिनों में पूरा कर सकती है। 2 पुरुष और 3 महिलाएँ एक दिन छोड़कर काम करते हैं और पुरुष पहले दिन काम शुरू करते हैं। काम _____ दिनों में पूरा हो जाएगा।

Ans

1. $\frac{24}{5}$
2. $\frac{21}{5}$
3. $\frac{22}{3}$
4. $\frac{22}{5}$

Question ID : 264330153815

Option 1 ID : 264330602723

Option 2 ID : 264330602724

Option 3 ID : 264330602725

Option 4 ID : 264330602726

Status : Not Answered

Chosen Option : --

Q.4 नीचे दी गई तालिका में 2022 के हर माह में एक महिला द्वारा जॉगिंग की गई दूरी को दर्शाया गया है। तालिका का अध्ययन कीजिए और नीचे दिए गए प्रश्न का उत्तर दीजिए।

माह	जनवरी	फरवरी	मार्च	अप्रैल	मई	जून	जुलाई	अगस्त	सितंबर	अक्टूबर	नवंबर	दिसंबर
जॉगिंग की गई दूरी (km में)	90	60	30	30	30	60	60	90	30	60	90	30

वर्ष 2022 में महिला द्वारा जॉगिंग की गई माध्य दूरी कितनी है?

- Ans 1. 52.5 km
2. 50 km
3. 55 km
4. 60 km

Question ID : 264330156290

Option 1 ID : 264330612562

Option 2 ID : 264330612561

Option 3 ID : 264330612559

Option 4 ID : 264330612560

Status : Answered

Chosen Option : 3

Q.5 0.08 और 0.32 के बीच का माध्यानुपाती श्रात कीजिए।

- Ans 1. 16
2. 1.6
3. 0.016
4. 0.16

Question ID : 264330153845

Option 1 ID : 264330602844

Option 2 ID : 264330602845

Option 3 ID : 264330602846

Option 4 ID : 264330602843

Status : Answered

Chosen Option : 4

Q.6 सरसों के तेल का अंकित मूल्य इसके क्रय मूल्य से 10% अधिक है। इसे अंकित मूल्य से कितने प्रतिशत कम पर बेचा जाना चाहिए ताकि न लाभ हो और न हानि?

- Ans**
- 1. $9\frac{3}{11}\%$
 - 2. $9\frac{4}{11}\%$
 - 3. $9\frac{1}{11}\%$
 - 4. $9\frac{2}{11}\%$

Question ID : 264330156219

Option 1 ID : 264330612277

Option 2 ID : 264330612278

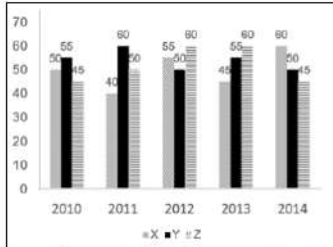
Option 3 ID : 264330612275

Option 4 ID : 264330612276

Status : Answered

Chosen Option : 3

Q.7 निम्न आलेख में कुछ वर्षों में तीन अलग-अलग कंपनियों X, Y और Z द्वारा टायरों के उत्पादन (लाखों में) को दर्शाया गया है।
निर्देश: निम्नलिखित आलेख का ध्यानपूर्वक अध्ययन कीजिए और नीचे दिए गए प्रश्न का उत्तर दीजिए।



2012 और 2013 में कंपनी Z का कुल उत्पादन, 2010 और 2011 में कंपनी X के कुल उत्पादन का कितना प्रतिशत है?

- Ans**
- 1. 111.1%
 - 2. 126.3%
 - 3. 75%
 - 4. 133.3%

Question ID : 264330153890

Option 1 ID : 264330603026

Option 2 ID : 264330603025

Option 3 ID : 264330603024

Option 4 ID : 264330603023

Status : Answered

Chosen Option : 4

Q.8 दिए गए व्यंजक को सरल कीजिए।

$$71 - (-3)\{-2 - (8 - 3)\} + 3\{5 + (-2)(-1)\}$$

- Ans
- 1. 119
 - 2. 50
 - 3. 71
 - 4. 30

Question ID : 264330157321

Option 1 ID : 264330616648

Option 2 ID : 264330616647

Option 3 ID : 264330616649

Option 4 ID : 264330616650

Status : Answered

Chosen Option : 3

Q.9 एक साइकिल सवार 10 km/h की चाल से 15 km की यात्रा करता है और फिर 20 km/h की चाल से 15 km की एक और यात्रा करता है। पूरी यात्रा में साइकिल सवार की औसत चाल क्या है? (दशमलव के दो स्थानों तक सन्निकटित)

- Ans
- 1. 13.33 km/h
 - 2. 13.74 km/h
 - 3. 12.32 km/h
 - 4. 12.72 km/h

Question ID : 264330156257

Option 1 ID : 264330612429

Option 2 ID : 264330612430

Option 3 ID : 264330612427

Option 4 ID : 264330612428

Status : Answered

Chosen Option : 1

Q.10 ₹3,600 को इस प्रकार बांटा जाता है कि पहले भाग का आधा, दूसरे भाग का एक-तिहाई और तीसरे भाग का पांचवा भाग समान है। तीसरे भाग का मान कितना है?

- Ans
- 1. 1000
 - 2. 1800
 - 3. 2400
 - 4. 1080

Question ID : 264330154050

Option 1 ID : 264330603666

Option 2 ID : 264330603664

Option 3 ID : 264330603663

Option 4 ID : 264330603665

Status : Answered

Chosen Option : 2

Q.11 एक स्टोर एक वस्तु को ₹500 में बेचता है और 25% का लाभ अर्जित करता है। बाद में, पुरानी वस्तुओं को बेचने के लिए स्टोर वस्तु का मूल्य 20% कम कर देता है। स्टोर का नया लाभ या हानि प्रतिशत क्या है?

Ans ✓ 1. न लाभ, न हानि

✗ 2. 5% हानि

✗ 3. 5% लाभ

✗ 4. 2% लाभ

Question ID : 264330156264

Option 1 ID : 264330612458

Option 2 ID : 264330612456

Option 3 ID : 264330612455

Option 4 ID : 264330612457

Status : Answered

Chosen Option : 1

Q.12 2 वर्षों में ₹85,000 की धनराशि के लिए चक्रवृद्धि ब्याज (वार्षिक रूप से संयोजित) और साधारण ब्याज के बीच का अंतर ₹850 है। वार्षिक ब्याज की दर ज्ञात कीजिए।

Ans ✓ 1. 10%

✗ 2. 12%

✗ 3. 5%

✗ 4. 8%

Question ID : 264330156229

Option 1 ID : 264330612317

Option 2 ID : 264330612318

Option 3 ID : 264330612315

Option 4 ID : 264330612316

Status : Answered

Chosen Option : 1

Q.13 The area of a trapezium is 180 cm^2 and two parallel sides are 28 cm and 12 cm. The distance between these parallel sides is:

Ans ✗ 1. 12 cm

✗ 2. 15 cm

✗ 3. 18 cm

✓ 4. 9 cm

Question ID : 264330154138

Option 1 ID : 264330604015

Option 2 ID : 264330604018

Option 3 ID : 264330604017

Option 4 ID : 264330604016

Status : Answered

Chosen Option : 4

Q.14 क्रमशः 120 मीटर और 150 मीटर लंबी दो रेलगाड़ियां समान दिशा में क्रमशः 70 km/h और 52 km/h की चाल से चल रही हैं। पहली रेलगाड़ी, दूसरी रेलगाड़ी को कितने समय में पार करेगी? (सेकंड में)

- Ans** ✓ 1. 54
✗ 2. 60
✗ 3. 52
✗ 4. 48

Question ID : 264330156008
Option 1 ID : 264330611433
Option 2 ID : 264330611434
Option 3 ID : 264330611431
Option 4 ID : 264330611432
Status : Answered
Chosen Option : 1

Q.15 सुशांत ने ₹20 प्रति पैसेट की दर से तेल के 3 पैसेट, ₹21 प्रति पैसेट की दर से तेल के 4 पैसेट और ₹ 22 प्रति पैसेट की दर से तेल के 3 पैसेट खरीदे। तेल के एक पैसेट का औसत मूल्य कितना है?

- Ans** ✗ 1. ₹21.5
✓ 2. ₹21
✗ 3. ₹20.5
✗ 4. ₹20

Question ID : 264330153870
Option 1 ID : 264330602946
Option 2 ID : 264330602945
Option 3 ID : 264330602944
Option 4 ID : 264330602943
Status : Answered
Chosen Option : 2

Q.16 पहले वर्ष के दौरान, एक कस्बे की जनसंख्या में 10% की वृद्धि हुई और अगले वर्ष के दौरान, जनसंख्या में 10% की कमी आई। यदि दूसरे वर्ष के अंत में कस्बे की कुल जनसंख्या 19,800 थी, तो पहले वर्ष की शुरुआत में जनसंख्या कितनी थी?

- Ans** ✗ 1. 20,800
✗ 2. 21,000
✗ 3. 21,800
✓ 4. 20,000

Question ID : 264330155994
Option 1 ID : 264330611377
Option 2 ID : 264330611376
Option 3 ID : 264330611375
Option 4 ID : 264330611378
Status : Answered
Chosen Option : 1

Q.17 25 लड़कों की औसत लंबाई 150 cm आंकी गई। बाद में यह ज्ञात हुआ कि औसत की गणना के लिए 160 cm के एक मान को गलती से 135 cm के रूप में कॉपी कर लिया गया था। सही औसत लंबाई (cm में) ज्ञात कीजिए।

- Ans** ✓ 1. 151
✗ 2. 152
✗ 3. 154
✗ 4. 158

Question ID : 264330156097
Option 1 ID : 264330611788
Option 2 ID : 264330611790
Option 3 ID : 264330611787
Option 4 ID : 264330611789
Status : Answered
Chosen Option : 1

Q.18 The ratio of principal and amount is 5 : 6 for one year. Find the rate of simple interest per annum?

- Ans** ✗ 1. 10%
✗ 2. 11%
✓ 3. 20%
✗ 4. 15%

Question ID : 264330158842
Option 1 ID : 264330622727
Option 2 ID : 264330622729
Option 3 ID : 264330622730
Option 4 ID : 264330622728
Status : Answered
Chosen Option : 3

Q.19 वह सबसे बड़ी संख्या कौन-सी है जिससे 627, 15630 और 3128 को भाग देने पर क्रमशः 2, 5 और 3 शेषफल बचता है?

- Ans** ✗ 1. 775
✓ 2. 625
✗ 3. 1225
✗ 4. 650

Question ID : 264330156089
Option 1 ID : 264330611757
Option 2 ID : 264330611755
Option 3 ID : 264330611756
Option 4 ID : 264330611758
Status : Answered
Chosen Option : 2

Q.20 Water is pouring into a cuboidal reservoir at the rate of 50 litres per minute. The volume of the reservoir is 120 m^3 . How many hours will it take to fill the reservoir?

- Ans**
- 1. 35
 - 2. 40
 - 3. 45
 - 4. 30

Question ID : 264330153864
Option 1 ID : 264330602922
Option 2 ID : 264330602920
Option 3 ID : 264330602919
Option 4 ID : 264330602921
Status : Answered
Chosen Option : 4

Section : Reasoning Ability and Problem Solving

Q.1 अंग्रेजी वर्णमाला क्रम के आधार पर दी गई श्रृंखला में प्रश्न चिह्न (?) के स्थान पर क्या आना चाहिए?

DQK, CPJ, BOI, ANH, ?

- Ans**
- 1. ZMG
 - 2. YNF
 - 3. XMF
 - 4. YLF

Question ID : 264330155768
Option 1 ID : 264330610477
Option 2 ID : 264330610478
Option 3 ID : 264330610475
Option 4 ID : 264330610476
Status : Answered
Chosen Option : 1

Q.2 दी गई श्रृंखला में प्रश्न चिह्न '?' के स्थान पर क्या आना चाहिए?

10 52 262 1312 6562 ?

- Ans**
- 1. 31458
 - 2. 32954
 - 3. 31726
 - 4. 32812

Question ID : 264330151472
Option 1 ID : 264330593515
Option 2 ID : 264330593518
Option 3 ID : 264330593516
Option 4 ID : 264330593517
Status : Answered
Chosen Option : 4

Q.3 दी गई श्रृंखला में प्रश्न चिन्ह '?' के स्थान पर क्या आना चाहिए?

2 24 ? 948 5700 34212 205284

Ans 1. 136

2. 119

3. 156

4. 184

Question ID : 264330151482

Option 1 ID : 264330593556

Option 2 ID : 264330593555

Option 3 ID : 264330593557

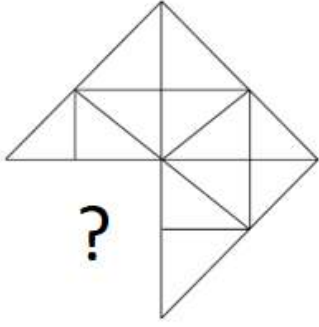
Option 4 ID : 264330593558

Status : Answered

Chosen Option : 1

KD Job Updates

Q.4 पैटर्न को पूरा करने वाली आकृति को पहचानिए (घूर्णन की अनुमति नहीं है)।



Ans

✓ 1.



✗ 2.



✗ 3.



✗ 4.



KD Job Updates

Question ID : 264330154520

Option 1 ID : 264330605545

Option 2 ID : 264330605543

Option 3 ID : 264330605544

Option 4 ID : 264330605546

Status : Answered

Chosen Option : 1

Q.5 एक निश्चित तर्क के अनुसार 13, 174 से संबंधित है। समान तर्क के अनुसार, 15, 230 से संबंधित है। समान तर्क का अनुसरण करते हुए 17 निम्नलिखित में से किससे संबंधित है?

Ans ✓ 1. 294

✗ 2. 292

✗ 3. 293

✗ 4. 291

Question ID : 264330151596

Option 1 ID : 264330594014

Option 2 ID : 264330594012

Option 3 ID : 264330594013

Option 4 ID : 264330594011

Status : Answered

Chosen Option : 1

Q.6 यदि निम्नलिखित आकृति श्रृंखला को जारी रखना हो तो कौन-सी आकृति प्रश्न चिन्ह (?) के स्थान पर आनी चाहिए?

v =	3 Δ	v 3	o Δ	
o	=	c	3	?
Δ 3	o v	Δ o	c v	

Ans

✓ 1.

	v	o
Δ	c	

✗ 2.

	o	c
	3	
Δ	v	

✗ 3.

	c	o
v	Δ	

✗ 4.

	v	c
	o	
Δ	3	

Question ID : 264330154743

Option 1 ID : 264330606437

Option 2 ID : 264330606438

Option 3 ID : 264330606435

Option 4 ID : 264330606436

Status : Answered

Chosen Option : 4

Q.7 DK 18, EM 22 से एक निश्चित प्रकार से संबंधित है। उसी प्रकार, ME 25, NG 29 से संबंधित है। समान तर्क का अनुसरण करते हुए UL 14 निम्नलिखित में से किससे संबंधित है?

Ans ✗ 1. WN 18

✗ 2. VM 19

✗ 3. XO 17

✓ 4. VN 18

Question ID : 264330151667

Option 1 ID : 264330594298

Option 2 ID : 264330594297

Option 3 ID : 264330594296

Option 4 ID : 264330594295

Status : Not Answered

Chosen Option : --

Q.8 यदि '+' और 'x' को आपस में बदल दिया जाए और '-' और '/' को आपस में बदल दिया जाए तो निम्नलिखित समीकरण में '?' के स्थान पर क्या आएगा?
 $1 \times 1 - 1 \div 1 + 1 = ?$

- Ans
- 1. 11
 - 2. 21
 - 3. 10
 - 4. 1

Question ID : 264330154656

Option 1 ID : 264330606089

Option 2 ID : 264330606090

Option 3 ID : 264330606087

Option 4 ID : 264330606088

Status : Answered

Chosen Option : 4

Q.9 नीचे दिए गए कथनों और निष्कर्षों को ध्यानपूर्वक पढ़िए। आपको मानना है कि दिए गए कथन सत्य हैं चाहे वे समान्यतः ज्ञात तथ्यों से अलग प्रतीत होते हों। आपको निश्चय करना है कि कौन-सा/कौन-से निष्कर्ष तार्किक रूप से दिए गए कथनों के अनुसार है/हैं।

कथन: कुछ डोनट्स, चटाने हैं। सभी चटाने, कागज हैं। कुछ कागज, तेल हैं।

निष्कर्ष I: कुछ डोनट्स, कागज हैं।

निष्कर्ष II: कुछ चटाने, तेल हैं।

- Ans
- 1. केवल निष्कर्ष (I) कथनों के अनुसार है।
 - 2. न तो निष्कर्ष (I) और न ही (II) कथनों के अनुसार है।
 - 3. दोनों निष्कर्ष (I) और (II) कथनों के अनुसार हैं।
 - 4. केवल निष्कर्ष (II) कथनों के अनुसार है।

Question ID : 264330155926

Option 1 ID : 264330611107

Option 2 ID : 264330611109

Option 3 ID : 264330611110

Option 4 ID : 264330611108

Status : Answered

Chosen Option : 1

Q.10 यदि 7 मई 2000 को रविवार है, तो 15 जुलाई 2010 को सप्ताह का कौन-सा दिन होगा?

- Ans
- 1. सोमवार
 - 2. रविवार
 - 3. शुक्रवार
 - 4. गुरुवार

Question ID : 264330154331

Option 1 ID : 264330604787

Option 2 ID : 264330604788

Option 3 ID : 264330604789

Option 4 ID : 264330604790

Status : Answered

Chosen Option : 1

Q.11 उस सही विकल्प को चुनिए, जिसे दी गई श्रृंखला के रिक्त स्थानों में इसी क्रम में रखने पर श्रृंखला तार्किक रूप से पूरी हो जाएगी।

A_BY CZ_Y_ZFY GZH_IZ_Y

- Ans
- ✗ 1. HCJNR
 - ✗ 2. BHDKU
 - ✓ 3. ZDEYJ
 - ✗ 4. ZJDBV

Question ID : 264330154721

Option 1 ID : 264330606350

Option 2 ID : 264330606348

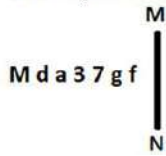
Option 3 ID : 264330606349

Option 4 ID : 264330606347

Status : Answered

Chosen Option : 2

Q.12 दी गई आकृति के उस सही दर्पण प्रतिबिंब को चुनिए, जो नीचे दर्शाए गए अनुसार दर्पण को MN पर रखने पर बनेगा।



- Ans
- ✗ 1. f g 7 ε ε b W
 - ✓ 2. f g 7 ε ε b M
 - ✗ 3. f g 7 ε a b M
 - ✗ 4. g f 7 3 ε P M

Question ID : 264330151530

Option 1 ID : 264330593747

Option 2 ID : 264330593749

Option 3 ID : 264330593748

Option 4 ID : 264330593750

Status : Answered

Chosen Option : 2

Q.13 नीचे दिए गए कथनों और निष्कर्षों को ध्यानपूर्वक पढ़िए। आपको मानना है कि दिए गए कथन सत्य हैं चाहे वे समान्यतः ज्ञात तथ्यों से अलग प्रतीत होते हों। आपको निश्चय करना है कि कौन-सा कौन-से निष्कर्ष तार्किक रूप से दिए गए कथनों के अनुसार है।

कथन: कुछ ग्लास, गुलाबी हैं। सभी गुलाबी, बैग हैं। कुछ बैग, फूल हैं।

निष्कर्ष I: कुछ गुलाबी, ग्लास हैं।

निष्कर्ष II: कुछ फूल, बैग हैं।

- Ans
- ✗ 1. केवल निष्कर्ष (I) कथनों के अनुसार है।
 - ✗ 2. न तो निष्कर्ष (I) और न ही (II) कथनों के अनुसार है।
 - ✓ 3. दोनों निष्कर्ष (I) और (II) कथनों के अनुसार हैं।
 - ✗ 4. केवल निष्कर्ष (II) कथनों के अनुसार है।

Question ID : 264330155896

Option 1 ID : 264330610987

Option 2 ID : 264330610989

Option 3 ID : 264330610990

Option 4 ID : 264330610988

Status : Answered

Chosen Option : 3

Q.14 दी गई श्रृंखला में प्रश्न चिन्ह '?' के स्थान पर क्या आना चाहिए?

37 325 2917 ? 236197 2125765 19131877

- Ans
- 1. 28741
 - 2. 28953
 - 3. 27894
 - 4. 26245

Question ID : 264330151447
Option 1 ID : 264330593417
Option 2 ID : 264330593418
Option 3 ID : 264330593416
Option 4 ID : 264330593415
Status : Not Answered
Chosen Option : --

Q.15 यदि '+' और '-' को आपस में बदल दिया जाए तथा 'x' और '+' को आपस में बदल दिया जाए तो निम्नलिखित समीकरण में (?) के स्थान पर क्या आएगा?

$$147 \times 7 + 8 + 32 - 6 = ?$$

- Ans
- 1. 142
 - 2. 122
 - 3. 132
 - 4. 152

Question ID : 264330155676
Option 1 ID : 264330610110
Option 2 ID : 264330610108
Option 3 ID : 264330610109
Option 4 ID : 264330610107
Status : Answered
Chosen Option : 1

Q.16 एक निश्चित कूट भाषा में, 'MINT' को '4735' लिखा जाता है और 'TIME' को '5483' लिखा जाता है। उसी कूट भाषा में 'E' को कैसे लिखा जाएगा?

- Ans
- 1. 4
 - 2. 8
 - 3. 3
 - 4. 5

Question ID : 264330151703
Option 1 ID : 264330594442
Option 2 ID : 264330594439
Option 3 ID : 264330594441
Option 4 ID : 264330594440
Status : Answered
Chosen Option : 3

Q.17 उस सही विकल्प को चुनिए, जिसे दी गई श्रृंखला के रिक्त स्थानों में इसी क्रम में रखने पर श्रृंखला तार्किक रूप से पूरी हो जाएगी।

EFS_ JK_M OPR_ US_ YZ_B

- Ans
- 1. HTBSW
 - 2. HSTWS
 - 3. JTBWS
 - 4. JSTBW

Question ID : 264330154727

Option 1 ID : 264330606371

Option 2 ID : 264330606372

Option 3 ID : 264330606374

Option 4 ID : 264330606373

Status : Answered

Chosen Option : 3

Q.18 उस समुच्चय को चुनिए जिसमें संख्याएँ ठीक उसी प्रकार संबंधित हैं जिस प्रकार निम्नलिखित समुच्चयों की संख्याएँ संबंधित हैं।

(ध्यान दें: संख्याओं को उनके घटक अंकों में अलग-अलग किए बिना, पूर्ण संख्याओं पर संक्रियाएँ की जानी चाहिए। उदा. 13 - संख्या 13 पर संक्रियाएँ जैसे 13 को जोड़ना/घटाना/गुणा करना आदि किया जा सकता है। 13 को 1 और 3 में अलग-अलग करने की और फिर 1 और 3 पर गणितीय संक्रियाएँ करने की अनुमति नहीं है।)

(4, 55, 7)

(2, 35, 5)

- Ans
- 1. 12, 346, 9
 - 2. 19, 122, 8
 - 3. 41, 156, 7
 - 4. 32, 175, 3

Question ID : 264330151617

Option 1 ID : 264330594095

Option 2 ID : 264330594096

Option 3 ID : 264330594098

Option 4 ID : 264330594097

Status : Answered

Chosen Option : 4

Q.19 Q, R, S, T, U, V, W और X एक वर्गाकार मेज के चारों ओर केन्द्र की ओर मुख करके बैठे हैं। उनमें से कुछ मेज के कोनों पर बैठे हैं जबकि कुछ भुजाओं के ठीक मध्य में बैठे हैं। X, W के बाईं ओर से दूसरे स्थान पर बैठा है। W किसी एक कोने में बैठा है। T और U का निकटतम पड़ोसी V है। R, T के बाईं ओर से तीसरे स्थान पर बैठा है। U किसी भी एक कोने में नहीं बैठा है। U न तो X और न ही W का पड़ोसी है। Q, X का पड़ोसी नहीं है। S के बाईं ओर से गिनने पर S और V के बीच में कितने व्यक्ति बैठे हैं?

- Ans
- 1. दो
 - 2. एक
 - 3. तीन
 - 4. चार

Question ID : 264330155535

Option 1 ID : 264330609545

Option 2 ID : 264330609546

Option 3 ID : 264330609544

Option 4 ID : 264330609543

Status : Answered

Chosen Option : 4

Q.20 एक निश्चित कूट भाषा में, 'GLOAT' को 'EJMYR' लिखा जाता है और 'INCUR' को 'GLASP' लिखा जाता है। उस कूट भाषा में 'PANDA' को कैसे लिखा जाएगा?

- Ans**
- 1. MZMCZ
 - 2. NYLBY
 - 3. NXNBY
 - 4. MYMCX

Question ID : 264330155816
Option 1 ID : 264330610667
Option 2 ID : 264330610668
Option 3 ID : 264330610670
Option 4 ID : 264330610669
Status : Answered
Chosen Option : 2

Section : General Awareness

Q.1 भारत की जनगणना 2011 के अनुसार, किस राज्य/केंद्र शासित प्रदेश में लिंगानुपात सबसे कम है?

- Ans**
- 1. पंजाब
 - 2. लक्षद्वीप
 - 3. हरियाणा
 - 4. दमन और दीव

Question ID : 264330160154
Option 1 ID : 264330627955
Option 2 ID : 264330627956
Option 3 ID : 264330627958
Option 4 ID : 264330627957
Status : Answered
Chosen Option : 3

Q.2 पैराथाइरॉइड हार्मोन (parathyroid hormone) के अपर्याप्त स्तर के कारण रक्त में कैल्शियम की कमी निम्नलिखित में से किस स्थिति का कारण बनती है?

- Ans**
- 1. मधुमेह (Diabetes)
 - 2. मलेरिया (Malaria)
 - 3. रक्ताल्पता (Anaemia)
 - 4. अल्पकैल्सियमरक्तता (Hypocalcemia)

Question ID : 264330156612
Option 1 ID : 264330613837
Option 2 ID : 264330613838
Option 3 ID : 264330613836
Option 4 ID : 264330613835
Status : Answered
Chosen Option : 4

Q.3 निम्नलिखित में से किस नेता ने बिहार में 1857 के विद्रोह का नेतृत्व किया?

- Ans
- 1. राजकुमार शुक्ल
 - 2. राजेन्द्र प्रसाद
 - 3. कुंवर सिंह
 - 4. देवी सिंह

Question ID : 264330162325

Option 1 ID : 264330636630

Option 2 ID : 264330636629

Option 3 ID : 264330636628

Option 4 ID : 264330636627

Status : Answered

Chosen Option : 3

Q.4 मध्य प्रदेश की मुख्यमंत्री सीखो-कमाओ योजना (Learn and Earn Scheme) के तहत सरकार निम्नलिखित में से क्या प्रदान नहीं करेगी?

- Ans
- 1. वित्तीय सहायता
 - 2. प्रशिक्षण
 - 3. लैपटॉप
 - 4. रोजगारपरक कौशल

Question ID : 264330158331

Option 1 ID : 264330620684

Option 2 ID : 264330620686

Option 3 ID : 264330620685

Option 4 ID : 264330620683

Status : Answered

Chosen Option : 3

Q.5 निम्नलिखित में से किसने अश्वशक्ति (horsepower) की एक इकाई स्थापित की जो एक घोड़े द्वारा एक मिनट में 33,000 फुट-पाउंड काम (33,000 foot - pounds of work) करने के बराबर है?

- Ans
- 1. जेम्स क्रॉल
 - 2. जेम्स ड्वाइट डाना
 - 3. जेम्स ब्लैक
 - 4. जेम्स वॉट

Question ID : 264330161401

Option 1 ID : 264330632933

Option 2 ID : 264330632934

Option 3 ID : 264330632932

Option 4 ID : 264330632931

Status : Answered

Chosen Option : 4

Q.6 _____ ग्रैमी जीतने वाली पहली भारतीय महिला हैं।

- Ans
- 1. शाल्मली खोलगडे
 - 2. पलक मुच्छल
 - 3. तन्वी शाह
 - 4. शिल्पा राव

Question ID : 264330155472
Option 1 ID : 264330609291
Option 2 ID : 264330609292
Option 3 ID : 264330609293
Option 4 ID : 264330609294
Status : Answered
Chosen Option : 3

Q.7 भारत में सूक्ष्म वित्त संस्थानों की संवहनीयता (sustainability) से संबंधित आयाम क्या है?

- Ans
- 1. अत्यधिक ब्याज दरें
 - 2. दाता निधि पर निर्भरता
 - 3. सीमित सामाजिक प्रभाव
 - 4. उच्च लाभ मार्जिन

Question ID : 264330157294
Option 1 ID : 264330616541
Option 2 ID : 264330616540
Option 3 ID : 264330616542
Option 4 ID : 264330616539
Status : Not Answered
Chosen Option : --

Q.8 एसएचजी बैंक लिंकेज आंदोलन (SHG Bank linkage movement) के महत्वपूर्ण लक्ष्य का नेतृत्व आरबीआई (RBI) के समर्थन से _____ ने किया था।

- Ans
- 1. सहकारी बैंक (Cooperative Bank)
 - 2. नाबार्ड (NABARD)
 - 3. सेबी (SEBI)
 - 4. इंडियन बैंक (Indian Bank)

Question ID : 264330161454
Option 1 ID : 264330633146
Option 2 ID : 264330633145
Option 3 ID : 264330633144
Option 4 ID : 264330633143
Status : Not Answered
Chosen Option : --

Q.9 भारत सरकार अधिनियम, 1935 के बारे में निम्नलिखित कथनों पर विचार कीजिए।

- 1) यह अधिनियम ब्रिटिश संसद द्वारा अधिनियमित किया गया था।
- 2) इस अधिनियम को भारत और बर्मा सरकार के लिए दो अलग-अलग अधिनियमों में विभाजित किया गया था।
- 3) यह अधिनियम 1 अप्रैल 1935 से प्रारंभ किया गया था।

नीचे दिए गए कोड का उपयोग करके सही कथन/नों का चुनाव कीजिए।

- Ans
- 1. 1, 2 और 3
 - 2. 2 और 3 दोनों
 - 3. 1 और 2 दोनों
 - 4. 1 और 3 दोनों

Question ID : 264330160879

Option 1 ID : 264330630850

Option 2 ID : 264330630849

Option 3 ID : 264330630847

Option 4 ID : 264330630848

Status : Answered

Chosen Option : 4

Q.10 भारत सरकार द्वारा ग्रामीण युवाओं को स्वरोजगार हेतु प्रशिक्षण (Training of Rural Youth for Self Employment - TRYSEM) योजना किस वर्ष शुरू की गई थी ?

- Ans
- 1. 1979
 - 2. 1965
 - 3. 2000
 - 4. 1991

Question ID : 264330161575

Option 1 ID : 264330633627

Option 2 ID : 264330633629

Option 3 ID : 264330633630

Option 4 ID : 264330633628

Status : Answered

Chosen Option : 3

Q.11 निम्नलिखित में से प्रसिद्ध क्रिकेटर सौरव गांगुली की आत्मकथा कौन-सी है?

- Ans
- 1. मेमोरीज़ ऑफ़ माई लाइफ़ एंड टाइम्स (Memories of My Life and Times)
 - 2. ए शॉट एट हिस्ट्री (A Shot at History)
 - 3. अ सेंचुरी इस नॉट इनफ़ (A Century is not enough)
 - 4. द ड्रीम ऑफ़ रिवोल्यूशन (The Dream of Revolution)

Question ID : 264330162283

Option 1 ID : 264330636462

Option 2 ID : 264330636459

Option 3 ID : 264330636461

Option 4 ID : 264330636460

Status : Answered

Chosen Option : 3

Q.12 भारत की जलवायु का वर्णन करने के लिए प्रयुक्त सामान्य शब्द क्या है?

- Ans
- 1. शुष्क जलवायु
 - 2. उष्णकटिबंधीय मानसून
 - 3. ध्रुवीय जलवायु
 - 4. रेगिस्तानी जलवायु

Question ID : 264330157825
Option 1 ID : 264330618661
Option 2 ID : 264330618662
Option 3 ID : 264330618660
Option 4 ID : 264330618659
Status : Answered
Chosen Option : 2

Q.13 ISSF जूनियर विश्व कप 2023 में भारत ने कितने स्वर्ण पदक जीते?

- Ans
- 1. 7
 - 2. 6
 - 3. 8
 - 4. 5

Question ID : 264330161130
Option 1 ID : 264330631852
Option 2 ID : 264330631851
Option 3 ID : 264330631854
Option 4 ID : 264330631853
Status : Answered
Chosen Option : 3

Q.14 वह सबसे शक्तिशाली हथियार कौन-सा है जो संसद को कार्यकारी जवाबदेही सुनिश्चित करने में सक्षम बनाता है?

- Ans
- 1. कानूनों की स्वीकृति या अस्वीकृति
 - 2. संधियों की पुष्टि
 - 3. विचार-विमर्श और चर्चा
 - 4. अविश्वास प्रस्ताव

Question ID : 264330161293
Option 1 ID : 264330632500
Option 2 ID : 264330632501
Option 3 ID : 264330632499
Option 4 ID : 264330632502
Status : Answered
Chosen Option : 4

Q.15 डंडारी (नृत्य) मंडलियां, कोलम (Kolam) और राज गोंड (Raj Gond) जनजातियों की भागीदारी के साथ एक पखवाड़े तक दिवाली के त्योहार के दौरान _____ का प्रदर्शन करती हैं।

- Ans
- 1. छउ (Chhau)
 - 2. राउत नाचा (Rout Nacha)
 - 3. गुसाड़ी (Ghusadi)
 - 4. बैगा परधोनी (Baiga Pardhoni)

Question ID : 264330160853
Option 1 ID : 264330630745
Option 2 ID : 264330630743
Option 3 ID : 264330630744
Option 4 ID : 264330630746
Status : Answered
Chosen Option : 2

Q.16 प्रसिद्ध नृत्य इतिहासकार डॉ. सुनील कोठारी को असम सरकार द्वारा 2019 में राज्य की किस नृत्य शैली को लोकप्रिय बनाने के लिए माधबदेव पुरस्कार (Madhabdev Award) से सम्मानित किया गया?

- Ans
- 1. बिहु (Bihu)
 - 2. बगुरुम्बा (Bagurumba)
 - 3. सत्रिय (Sattriya)
 - 4. ओजापाली (Ojapali)

Question ID : 264330155488
Option 1 ID : 264330609355
Option 2 ID : 264330609358
Option 3 ID : 264330609356
Option 4 ID : 264330609357
Status : Answered
Chosen Option : 3

Q.17 _____ का शाब्दिक अर्थ है 'जादूगरनी का नृत्य (dance of the enchantress)'. यह भारतीय शास्त्रीय नृत्य प्रदर्शनों की सूची में सबसे आकर्षक नृत्य शैली में से एक है।

- Ans
- 1. कथकली
 - 2. भरतनाट्यम
 - 3. मोहिनीअट्टम
 - 4. कुचिपुड़ी

Question ID : 264330160789
Option 1 ID : 264330630487
Option 2 ID : 264330630489
Option 3 ID : 264330630488
Option 4 ID : 264330630490
Status : Answered
Chosen Option : 1

Q.18 टीम रेस्ट ऑफ इंडिया (Team Rest of India) ने 2023 में ईरानी कप जीता। ईरानी कप किस राज्य में आयोजित किया गया था?

- Ans 1. मध्यप्रदेश
 2. बिहार
 3. पश्चिम बंगाल
 4. उत्तरप्रदेश

Question ID : 264330158353
Option 1 ID : 264330620772
Option 2 ID : 264330620771
Option 3 ID : 264330620774
Option 4 ID : 264330620773
Status : Answered
Chosen Option : 1

Q.19 42वां संवैधानिक संशोधन अधिनियम किस वर्ष पारित किया गया था?

- Ans 1. 1986
 2. 1978
 3. 1998
 4. 1976

Question ID : 264330159898
Option 1 ID : 264330626941
Option 2 ID : 264330626940
Option 3 ID : 264330626942
Option 4 ID : 264330626939
Status : Answered
Chosen Option : 4

Q.20 केरल और कर्नाटक में पूर्व-मानसून वर्षा को _____ के रूप में जाना जाता है।

- Ans 1. चाय की वर्षा
 2. केले की वर्षा
 3. अंगूर की वर्षा
 4. आम्र वर्षा

Question ID : 264330161515
Option 1 ID : 264330633387
Option 2 ID : 264330633389
Option 3 ID : 264330633390
Option 4 ID : 264330633388
Status : Answered
Chosen Option : 4

Q.21 लॉन्ग वॉक टू फ्रीडम (Long Walk to Freedom)' आत्मकथा किस अफ्रीकी नेता द्वारा लिखी गई है?

- Ans 1. मुअम्मर गद्दाफी (Muammar Gaddafi)
 2. नेल्सन मंडेला (Nelson Mandela)
 3. डेसमंड टूटू (Desmond Tutu)
 4. रॉबर्ट मुगाबे (Robert Mugabe)

Question ID : 264330160959
Option 1 ID : 264330631170
Option 2 ID : 264330631167
Option 3 ID : 264330631168
Option 4 ID : 264330631169
Status : Answered
Chosen Option : 2

Q.22 भारत के प्रमुख स्टेडियमों में से एक नरेंद्र मोदी क्रिकेट स्टेडियम _____ में स्थित है।

- Ans
- 1. नई दिल्ली
 - 2. बड़ौदा
 - 3. अहमदाबाद
 - 4. सूरत

Question ID : 264330158241
Option 1 ID : 264330620324
Option 2 ID : 264330620325
Option 3 ID : 264330620323
Option 4 ID : 264330620326
Status : Answered
Chosen Option : 3

Q.23 महाबोधि मंदिर कहां स्थित है?

- Ans
- 1. पटना
 - 2. आगरा
 - 3. वाराणसी
 - 4. बोधगया

Question ID : 264330160762
Option 1 ID : 264330630381
Option 2 ID : 264330630380
Option 3 ID : 264330630379
Option 4 ID : 264330630382
Status : Answered
Chosen Option : 4

Q.24 श्रीजगन्नाथ जी मेला _____ में आयोजित किया जाता है।

- Ans
- 1. संबलपुर
 - 2. कटक
 - 3. जयपुर
 - 4. अलवर

Question ID : 264330159087
Option 1 ID : 264330623710
Option 2 ID : 264330623708
Option 3 ID : 264330623709
Option 4 ID : 264330623707
Status : Answered
Chosen Option : 2

Q.25 किस भारतीय संगीतकार हस्ती का जन्मस्थान पश्चिम बंगाल है?

- Ans
- 1. बप्पी लहरी
 - 2. ओ. पी. नैय्यर
 - 3. इलैयाराजा
 - 4. नौशाद

Question ID : 264330162236
Option 1 ID : 264330636271
Option 2 ID : 264330636274
Option 3 ID : 264330636272
Option 4 ID : 264330636273
Status : Answered
Chosen Option : 3

Q.1 The following sentence has been split into four segments. Identify the segment that contains a grammatical error.

After I complete my training program / I will have been joining a team of astronauts / and preparing to / embark on a mission to Mars.

Ans ✓ 1. I will have been joining a team of astronauts

✗ 2. After I complete my training program

✗ 3. embark on a mission to Mars

✗ 4. and preparing to

Question ID : 264330144176

Option 1 ID : 264330564968

Option 2 ID : 264330564967

Option 3 ID : 264330564970

Option 4 ID : 264330564969

Status : Not Answered

Chosen Option : --

Q.2 The sentence given below contains some spelling errors. Select the option that has the correct spellings.

Members of the association have successfully climbed several peaks of the Himalayan range.

Ans ✓ 1. Members of the association have successfully climbed several peaks of the Himalayan range.

✗ 2. Members of the associasion have succesfully climbed several paiks of the Himalayan range.

✗ 3. Meembers of the associatiion have successfully climbed several peaks of the Himalayan range.

✗ 4. Members of the associattion have succesfully climbed several paeks of the Himalayan range.

Question ID : 264330153541

Option 1 ID : 264330601668

Option 2 ID : 264330601670

Option 3 ID : 264330601669

Option 4 ID : 264330601667

Status : Answered

Chosen Option : 1

Q.3 Choose the sentence that contains an error.

Ans ✓ 1. He is a doctor who specialises in the treating rare diseases.

✗ 2. She is the only person who can speak five languages fluently.

✗ 3. The Mona Lisa is a famous painting by Leonardo da Vinci.

✗ 4. I saw the movie that won the Academy Award for Best Picture.

Question ID : 264330155180

Option 1 ID : 264330608182

Option 2 ID : 264330608181

Option 3 ID : 264330608179

Option 4 ID : 264330608180

Status : Answered

Chosen Option : 2

Q.4 Select the most appropriate meaning of the given idiom.

To cut someone some slack

- Ans**
- 1. Avoid talking about problems till the very end
 - 2. To criticise someone very strictly
 - 3. To get the conversation going
 - 4. To not manage someone very strictly or critically

Question ID : 264330153009
Option 1 ID : 264330599608
Option 2 ID : 264330599607
Option 3 ID : 264330599609
Option 4 ID : 264330599610
Status : Answered
Chosen Option : 1

Q.5 Select the option that can be used as a one-word substitute for the given group of words.

A number which is used to divide another number

- Ans**
- 1. Divisible
 - 2. Remainder
 - 3. Divisor
 - 4. Quotient

Question ID : 264330153456
Option 1 ID : 264330601341
Option 2 ID : 264330601342
Option 3 ID : 264330601339
Option 4 ID : 264330601340
Status : Answered
Chosen Option : 3

Q.6 Select the most appropriate option to fill in the blank.
Her stories paid _____ to her mother, whom she regarded as the goddess of bravery.

- Ans**
- 1. absoluteness
 - 2. frustration
 - 3. homage
 - 4. sainthood

Question ID : 264330153552
Option 1 ID : 264330601708
Option 2 ID : 264330601707
Option 3 ID : 264330601709
Option 4 ID : 264330601710
Status : Answered
Chosen Option : 4

Q.7 The following sentence has been divided into parts. One of them may contain an error. Select the part that contains the error from the given options. If you don't find any error, mark 'No error' as your answer.
Why don't / you throw this / paper on the dust bin?

- Ans**
- 1. No error
 - 2. paper on the dust bin
 - 3. you throw this
 - 4. Why don't

Question ID : 264330150527
Option 1 ID : 264330589754
Option 2 ID : 264330589753
Option 3 ID : 264330589752
Option 4 ID : 264330589751
Status : Answered
Chosen Option : 2

Q.8 Select the most appropriate meaning of the given idiom.
Beat around the bush

- Ans**
- 1. To avoid addressing a topic correctly
 - 2. To be direct and formal
 - 3. To be impatient and short-tempered
 - 4. To be persistent in pursuing a goal

Question ID : 264330143943
Option 1 ID : 264330564036
Option 2 ID : 264330564035
Option 3 ID : 264330564038
Option 4 ID : 264330564037
Status : Answered
Chosen Option : 4

Q.9 The given sentence contains an error. Select the option that correctly rectifies the error.
Earlier, he was feeling better, but things took a turn for the bad.

- Ans**
- 1. Earlier, he was feeling better, but things took a turn for the worst.
 - 2. Earlier, he was feeling good, but things took a turn for the bad.
 - 3. Earlier, he was feeling better, but things took a turn for the ill.
 - 4. Earlier, he was feeling well, but things took a turn for the ill.

Question ID : 264330152609
Option 1 ID : 264330598040
Option 2 ID : 264330598041
Option 3 ID : 264330598042
Option 4 ID : 264330598039
Status : Answered
Chosen Option : 1

Q.10 Select the most appropriate idiom to fill in the blank.
Our trainer asked for _____ on her for the next informative session.

- Ans
- 1. being around the bend
 - 2. going bananas
 - 3. chasing rainbows
 - 4. all eyes and ears

Question ID : 264330153561
Option 1 ID : 264330601744
Option 2 ID : 264330601746
Option 3 ID : 264330601745
Option 4 ID : 264330601743
Status : Answered
Chosen Option : 4

Q.11 Select the option that can be used as a one-word substitute for the given group of words.

The action of formally accusing a public official of a serious offence

- Ans
- 1. Allegation
 - 2. Condemnation
 - 3. Summon
 - 4. Impeachment

Question ID : 264330151870
Option 1 ID : 264330595102
Option 2 ID : 264330595101
Option 3 ID : 264330595100
Option 4 ID : 264330595099
Status : Answered
Chosen Option : 3

Q.12 Select the most appropriate ANTONYM of the given word.
Break

- Ans
- 1. Breach
 - 2. Mend
 - 3. Divide
 - 4. Split

Question ID : 264330153556
Option 1 ID : 264330601723
Option 2 ID : 264330601724
Option 3 ID : 264330601725
Option 4 ID : 264330601726
Status : Answered
Chosen Option : 2

Q.13 The following sentence has been split into four segments. Identify the segment that contains a spelling error.

The conference / attempts to / trace the processes and / consequences of climate change.

- Ans
- 1. trace the processes and
 - 2. attempts to
 - 3. The conference
 - 4. consequences of climate change

Question ID : 264330155314
Option 1 ID : 264330608697
Option 2 ID : 264330608696
Option 3 ID : 264330608695
Option 4 ID : 264330608698
Status : Answered
Chosen Option : 1

Q.14 Select the INCORRECTLY spelt word in the given sentence.
Children below the age of 14 were not allowed to partisipate in the cooking competition.

- Ans
- 1. Children
 - 2. Partisipate
 - 3. Allowed
 - 4. Competition

Question ID : 264330153301
Option 1 ID : 264330600759
Option 2 ID : 264330600761
Option 3 ID : 264330600760
Option 4 ID : 264330600762
Status : Answered
Chosen Option : 2

Q.15 Select the most appropriate synonym of the given word.
Amicable

- Ans
- 1. Generous
 - 2. Friendly
 - 3. Harsh
 - 4. Proud

Question ID : 264330152749
Option 1 ID : 264330598598
Option 2 ID : 264330598596
Option 3 ID : 264330598595
Option 4 ID : 264330598597
Status : Answered
Chosen Option : 2

Q.16 Parts of the following sentence have been given as options. Select the option that contains an error.

I will celebrating New Year at my old residence as usual.

- Ans
- 1. I
 - 2. at my old residence as usual.
 - 3. will celebrating
 - 4. New Year

Question ID : 264330155229
Option 1 ID : 264330608371
Option 2 ID : 264330608374
Option 3 ID : 264330608372
Option 4 ID : 264330608373
Status : Answered
Chosen Option : 3

Q.17 Select the word segment which substitutes the bracketed word correctly and completes the sentence meaningfully.
Mathematics (are not) easy to learn.

- Ans
- 1. was not
 - 2. were not
 - 3. has not
 - 4. is not

Question ID : 264330152567
Option 1 ID : 264330597872
Option 2 ID : 264330597873
Option 3 ID : 264330597874
Option 4 ID : 264330597871
Status : Answered
Chosen Option : 4

Q.18 Select the most appropriate ANTONYM of the given word.
Forthcoming

- Ans
- 1. Past
 - 2. Extensive
 - 3. Adventurous
 - 4. Large

Question ID : 264330151912
Option 1 ID : 264330595263
Option 2 ID : 264330595264
Option 3 ID : 264330595266
Option 4 ID : 264330595265
Status : Answered
Chosen Option : 1

Q.19 Select the option that can be used as a one-word substitute for the given group of words.

A place of burial

- Ans
- 1. Building
 - 2. Laboratory
 - 3. Cemetery
 - 4. Observatory

Question ID : 264330153360

Option 1 ID : 264330600994

Option 2 ID : 264330600992

Option 3 ID : 264330600991

Option 4 ID : 264330600993

Status : Answered

Chosen Option : 3

Q.20 Select the most appropriate meaning of the given idiom.

Blessing in disguise

- Ans
- 1. Something that cannot be hidden from anyone
 - 2. Something that seems bad but provides some benefit
 - 3. Something that seems good but is harmful for you
 - 4. Something that remains hidden from everyone

Question ID : 264330153010

Option 1 ID : 264330599613

Option 2 ID : 264330599612

Option 3 ID : 264330599611

Option 4 ID : 264330599614

Status : Answered

Chosen Option : 2

Comprehension:

In the following passage, some words have been deleted. Read the passage carefully and select the most appropriate option to fill in each blank.

Once, there was a boy who became bored when he watched over the village sheep (1)_____ on the hillside. To entertain himself, he sang out, "Wolf! Wolf! The wolf is chasing the sheep!" When the villagers heard the cry, they came (2)_____ the hill to drive the wolf away. But, when they arrived, they saw no wolf. The boy was amused when seeing their angry faces. "Don't scream wolf, boy," warned the villagers, "when there is no wolf!" They angrily went back down the hill. Later, the shepherd boy cried out once again, "Wolf! Wolf! The wolf is chasing the sheep!" When the villagers came, they saw there was no wolf, they said strictly, "Save your (3)_____ cry for when there is really a wolf! Don't cry 'wolf' when there is no wolf!" Later, the boy saw a real wolf sneaking around his flock. Alarmed, he jumped on his feet and cried out as loud as he could, "Wolf! Wolf!" But the villagers thought he was (4)_____ them again, and so they didn't come to help. At sunset, the villagers went looking for the boy who hadn't returned with their sheep. When they went up the hill, they found him (5)_____ as all the sheep were dead.

SubQuestion No : 21

Q.21 Select the most appropriate option to fill in blank number 1.

- Ans
- 1. grazing
 - 2. laughing
 - 3. assisting
 - 4. receiving

Question ID : 264330153531

Option 1 ID : 264330601629

Option 2 ID : 264330601627

Option 3 ID : 264330601628

Option 4 ID : 264330601630

Status : Answered

Chosen Option : 1

Comprehension:

In the following passage, some words have been deleted. Read the passage carefully and select the most appropriate option to fill in each blank.

Once, there was a boy who became bored when he watched over the village sheep (1)_____ on the hillside. To entertain himself, he sang out, "Wolf! Wolf! The wolf is chasing the sheep!" When the villagers heard the cry, they came (2)_____ the hill to drive the wolf away. But, when they arrived, they saw no wolf. The boy was amused when seeing their angry faces. "Don't scream wolf, boy," warned the villagers, "when there is no wolf!" They angrily went back down the hill. Later, the shepherd boy cried out once again, "Wolf! Wolf! The wolf is chasing the sheep!" When the villagers came, they saw there was no wolf, they said strictly, "Save your (3)_____ cry for when there is really a wolf! Don't cry 'wolf' when there is no wolf!" Later, the boy saw a real wolf sneaking around his flock. Alarmed, he jumped on his feet and cried out as loud as he could, "Wolf! Wolf!" But the villagers thought he was (4)_____ them again, and so they didn't come to help. At sunset, the villagers went looking for the boy who hadn't returned with their sheep. When they went up the hill, they found him (5)_____ as all the sheep were dead.

SubQuestion No : 22

Q.22 Select the most appropriate option to fill in blank number 2.

- Ans 1. driving
 2. walking down
 3. running up
 4. running down

Question ID : 264330153532
Option 1 ID : 264330601632
Option 2 ID : 264330601633
Option 3 ID : 264330601631
Option 4 ID : 264330601634
Status : Answered
Chosen Option : 3

Comprehension:

In the following passage, some words have been deleted. Read the passage carefully and select the most appropriate option to fill in each blank.

Once, there was a boy who became bored when he watched over the village sheep (1)_____ on the hillside. To entertain himself, he sang out, "Wolf! Wolf! The wolf is chasing the sheep!" When the villagers heard the cry, they came (2)_____ the hill to drive the wolf away. But, when they arrived, they saw no wolf. The boy was amused when seeing their angry faces. "Don't scream wolf, boy," warned the villagers, "when there is no wolf!" They angrily went back down the hill. Later, the shepherd boy cried out once again, "Wolf! Wolf! The wolf is chasing the sheep!" When the villagers came, they saw there was no wolf, they said strictly, "Save your (3)_____ cry for when there is really a wolf! Don't cry 'wolf' when there is no wolf!" Later, the boy saw a real wolf sneaking around his flock. Alarmed, he jumped on his feet and cried out as loud as he could, "Wolf! Wolf!" But the villagers thought he was (4)_____ them again, and so they didn't come to help. At sunset, the villagers went looking for the boy who hadn't returned with their sheep. When they went up the hill, they found him (5)_____ as all the sheep were dead.

SubQuestion No : 23

Q.23 Select the most appropriate option to fill in blank number 3.

- Ans 1. laughable
 2. muffled
 3. frightened
 4. funny

Question ID : 264330153533
Option 1 ID : 264330601637
Option 2 ID : 264330601638
Option 3 ID : 264330601636
Option 4 ID : 264330601635
Status : Answered
Chosen Option : 2

Comprehension:

In the following passage, some words have been deleted. Read the passage carefully and select the most appropriate option to fill in each blank.

Once, there was a boy who became bored when he watched over the village sheep (1)_____ on the hillside. To entertain himself, he sang out, "Wolf! Wolf! The wolf is chasing the sheep!" When the villagers heard the cry, they came (2)_____ the hill to drive the wolf away. But, when they arrived, they saw no wolf. The boy was amused when seeing their angry faces. "Don't scream wolf, boy," warned the villagers, "when there is no wolf!" They angrily went back down the hill. Later, the shepherd boy cried out once again, "Wolf! Wolf! The wolf is chasing the sheep!" When the villagers came, they saw there was no wolf, they said strictly, "Save your (3)_____ cry for when there is really a wolf! Don't cry 'wolf' when there is no wolf!" Later, the boy saw a real wolf sneaking around his flock. Alarmed, he jumped on his feet and cried out as loud as he could, "Wolf! Wolf!" But the villagers thought he was (4)_____ them again, and so they didn't come to help. At sunset, the villagers went looking for the boy who hadn't returned with their sheep. When they went up the hill, they found him (5)_____ as all the sheep were dead.

SubQuestion No : 24

Q.24 Select the most appropriate option to fill in blank number 4.

- Ans 1. fighting
 2. fooling
 3. questioning
 4. seeing

Question ID : 264330153534
Option 1 ID : 264330601639
Option 2 ID : 264330601642
Option 3 ID : 264330601640
Option 4 ID : 264330601641
Status : Answered
Chosen Option : 2

Comprehension:

In the following passage, some words have been deleted. Read the passage carefully and select the most appropriate option to fill in each blank.

Once, there was a boy who became bored when he watched over the village sheep (1)_____ on the hillside. To entertain himself, he sang out, "Wolf! Wolf! The wolf is chasing the sheep!" When the villagers heard the cry, they came (2)_____ the hill to drive the wolf away. But, when they arrived, they saw no wolf. The boy was amused when seeing their angry faces. "Don't scream wolf, boy," warned the villagers, "when there is no wolf!" They angrily went back down the hill. Later, the shepherd boy cried out once again, "Wolf! Wolf! The wolf is chasing the sheep!" When the villagers came, they saw there was no wolf, they said strictly, "Save your (3)_____ cry for when there is really a wolf! Don't cry 'wolf' when there is no wolf!" Later, the boy saw a real wolf sneaking around his flock. Alarmed, he jumped on his feet and cried out as loud as he could, "Wolf! Wolf!" But the villagers thought he was (4)_____ them again, and so they didn't come to help. At sunset, the villagers went looking for the boy who hadn't returned with their sheep. When they went up the hill, they found him (5)_____ as all the sheep were dead.

SubQuestion No : 25

Q.25 Select the most appropriate option to fill in blank number 5.

- Ans 1. singing
 2. dancing
 3. happy
 4. weeping

Question ID : 264330153535
Option 1 ID : 264330601644
Option 2 ID : 264330601645
Option 3 ID : 264330601646
Option 4 ID : 264330601643
Status : Answered
Chosen Option : 4

Multi Tasking Non Technical Staff and Havaladar CBIC and CBN Examination 2023

Roll Number	KD Job Updates
Candidate Name	KD Job Updates
Venue Name	Maa Kamla Digital Center
Exam Date	05/09/2023
Exam Time	9:00 AM - 11:00 AM
Subject	MTS Non Tech Havaladar CBIC and CBN Examination 2023

Section : Numerical and Mathematical Ability

Q.1 P, Q और R की आय 9 : 15 : 10 के अनुपात में है और उनकी बचत 10 : 15 : 12 के अनुपात में है। यदि R अपनी आय का 60% खर्च करता है, तो P, Q और R के व्यय का अनुपात क्या है?

- Ans
- 1. 17 : 18 : 30
 - 2. 17 : 30 : 18
 - 3. 18 : 30 : 17
 - 4. 18 : 17 : 30

Question ID : 264330153763
Option 1 ID : 264330602516
Option 2 ID : 264330602517
Option 3 ID : 264330602515
Option 4 ID : 264330602518
Status : Not Answered
Chosen Option : --

Q.2 यदि $15\frac{2}{3} \times 3\frac{1}{6} + 6\frac{1}{3} = 11\frac{7}{18} + x$, तो x का मान ज्ञात कीजिए।

- Ans
- 1. $39\frac{5}{9}$
 - 2. $137\frac{4}{9}$
 - 3. $44\frac{5}{9}$
 - 4. $29\frac{7}{9}$

Question ID : 264330156335
Option 1 ID : 264330612739
Option 2 ID : 264330612740
Option 3 ID : 264330612742
Option 4 ID : 264330612741
Status : Answered
Chosen Option : 1

Q.3 ₹5,345 की धनराशि का, जब 10 वर्षों के लिए वार्षिक साधारण ब्याज की एक निश्चित दर पर निवेश किया जाता है, तो परिपक्वता पर ₹2,672.50 का ब्याज अर्जित करती है। साधारण ब्याज की वार्षिक दर क्या है?

- Ans** 1. 5%
 2. 4.5%
 3. 6.5%
 4. 8%

Question ID : 264330156486
Option 1 ID : 264330613332
Option 2 ID : 264330613333
Option 3 ID : 264330613334
Option 4 ID : 264330613331
Status : Answered
Chosen Option : 1

Q.4 अनिल, सुमित से 3 गुना तेजी से काम करता है। यदि सुमित अकेले एक काम को 12 दिनों में पूरा कर सकता है, तो अनिल और सुमित मिलकर काम को कितने दिनों में पूरा कर सकते हैं?

- Ans** 1. 3
 2. 5
 3. 2
 4. 4

Question ID : 264330156236
Option 1 ID : 264330612344
Option 2 ID : 264330612346
Option 3 ID : 264330612343
Option 4 ID : 264330612345
Status : Answered
Chosen Option : 1

Q.5 25 सेब ₹250 में खरीदे गए और 30 सेब ₹390 में बेचे गए। इस लेनदेन में लाभ/हानि प्रतिशत क्या है?

- Ans** 1. 25% लाभ
 2. 30% हानि
 3. 25% हानि
 4. 30% लाभ

Question ID : 264330155707
Option 1 ID : 264330610231
Option 2 ID : 264330610234
Option 3 ID : 264330610232
Option 4 ID : 264330610233
Status : Answered
Chosen Option : 4

Q.6 वैशाली ₹1,260 में एक बस का टिकट बुक करती है। तबीयत खराब होने की वजह से उसे टिकट रद्द करना पड़ा। इस प्रक्रिया में उसे ₹945 का रिफंड मिलता है। वैशाली को कितने प्रतिशत की हानि हुई?

- Ans
- 1. 15%
 - 2. 33%
 - 3. 23%
 - 4. 25%

Question ID : 264330155703

Option 1 ID : 264330610215

Option 2 ID : 264330610218

Option 3 ID : 264330610216

Option 4 ID : 264330610217

Status : Answered

Chosen Option : 4

Q.7 एक कक्षा के 50 छात्रों की औसत लंबाई 170 cm है। यदि उनमें से 15 छात्रों की औसत लंबाई 180 cm है, तो बाकी छात्रों की औसत लंबाई (cm में, निकटतम पूर्णांक तक सन्निकटित) क्या होगी?

- Ans
- 1. 175
 - 2. 162
 - 3. 166
 - 4. 174

Question ID : 264330153761

Option 1 ID : 264330602507

Option 2 ID : 264330602510

Option 3 ID : 264330602508

Option 4 ID : 264330602509

Status : Answered

Chosen Option : 3

Q.8 $5 : 3\frac{1}{3}$, $6\frac{1}{4} : 3\frac{1}{8}$ और $3.5 : 4.5$ अनुपातों को बढ़ते क्रम में व्यवस्थित कीजिए।

- Ans
- 1. $5 : 3\frac{1}{3} < 3.5 : 4.5 < 6\frac{1}{4} : 3\frac{1}{8}$
 - 2. $3.5 : 4.5 < 5 : 3\frac{1}{3} < 6\frac{1}{4} : 3\frac{1}{8}$
 - 3. $5 : 3\frac{1}{3} < 6\frac{1}{4} : 3\frac{1}{8} < 3.5 : 4.5$
 - 4. $6\frac{1}{4} : 3\frac{1}{8} < 5 : 3\frac{1}{3} < 3.5 : 4.5$

Question ID : 264330153766

Option 1 ID : 264330602528

Option 2 ID : 264330602530

Option 3 ID : 264330602529

Option 4 ID : 264330602527

Status : Answered

Chosen Option : 2

Q.9 यदि $15x = 24y = 32z$, तो $x : y : z$ बराबर _____ होगा।

- Ans
- 1. 24 : 15 : 4
 - 2. 32 : 20 : 15
 - 3. 32 : 15 : 20
 - 4. 15 : 24 : 32

Question ID : 264330153875
Option 1 ID : 264330602963
Option 2 ID : 264330602966
Option 3 ID : 264330602965
Option 4 ID : 264330602964
Status : Answered
Chosen Option : 2

Q.10 निम्नलिखित तालिका में एक संगठन के अलग-अलग विभागों में कर्मचारियों की संख्या और महिलाओं और पुरुषों के प्रतिशत को दर्शाया गया है। तालिका का ध्यानपूर्वक अध्ययन कीजिए और प्रश्न का उत्तर दीजिए।

विभाग	कर्मचारियों की कुल संख्या	महिलाओं का %	पुरुषों का %
आईटी	640	45	55
लेखा	220	40	60
उत्पादन	800	30	70
एचआर	360	65	35
मार्केटिंग	400	40	60

उत्पादन और एचआर विभागों में मिलाकर महिला कर्मचारियों की संख्या तथा आईटी और लेखा विभागों में मिलाकर पुरुषों की संख्या का अनुपात ज्ञात कीजिए।

- Ans
- 1. 235 : 330
 - 2. 237 : 242
 - 3. 227 : 323
 - 4. 235 : 340

Question ID : 264330156013
Option 1 ID : 264330611451
Option 2 ID : 264330611453
Option 3 ID : 264330611452
Option 4 ID : 264330611454
Status : Answered
Chosen Option : 2

Q.11 निम्नलिखित आलेख दो व्यक्तियों A और B द्वारा प्रतिदिन जॉगिंग की गई दूरी को दर्शाता है।



संदर्भ: Distance jogged by A and B - A और B द्वारा जॉगिंग की गई दूरी, Distance jogged (in kms) - जॉगिंग की दूरी (kms) में,
Monday - सोमवार, Tuesday - मंगलवार, Wednesday - बुधवार, Thursday - गुरुवार, Friday - शुक्रवार, Saturday - शनिवार,
Sunday - रविवार
यदि 1 km जॉगिंग करने से 100 कैलोरी खर्च होती है, तो दिए गए सप्ताह में A और B द्वारा खर्च की गई कैलोरी के बीच का अंतर कितना है?

- Ans
- 1. 150 कैलोरी
 - 2. 50 कैलोरी
 - 3. 10 कैलोरी
 - 4. 100 कैलोरी

Question ID : 264330154099

Option 1 ID : 264330603861

Option 2 ID : 264330603859

Option 3 ID : 264330603862

Option 4 ID : 264330603860

Status : Answered

Chosen Option : 2

Q.12 तीन संख्याओं का अनुपात 3 : 4 : 5 हैं और उनका महत्तम समापवर्तक 18 है। इन संख्याओं का योग क्या है?

- Ans
- 1. 216
 - 2. 198
 - 3. 234
 - 4. 180

Question ID : 264330155683

Option 1 ID : 264330610137

Option 2 ID : 264330610136

Option 3 ID : 264330610138

Option 4 ID : 264330610135

Status : Not Answered

Chosen Option : --

Q.13 वार्षिक रूप से संयोजित 12% वार्षिक दर से ₹1,250 की धनराशि कितने वर्ष में ₹1,568 हो जाएगी?

- Ans
- 1. 4 वर्ष
 - 2. 2 वर्ष
 - 3. 3 वर्ष
 - 4. 1 वर्ष

Question ID : 264330153880

Option 1 ID : 264330602986

Option 2 ID : 264330602984

Option 3 ID : 264330602985

Option 4 ID : 264330602983

Status : Answered

Chosen Option : 2

Q.14 स्थिर जल में एक नाव की चाल 30 km/h है और धारा की चाल 7.5 km/h है। नाव द्वारा धारा में 90 km की कुल दूरी तय करते हुए बिंदु A से B तक जाने और वापस A तक आने की यात्रा करने में घंटों में कितना समय लगा?

- Ans
- 1. 3.4
 - 2. 3.2
 - 3. 2.8
 - 4. 3.0

Question ID : 264330153814

Option 1 ID : 264330602722

Option 2 ID : 264330602721

Option 3 ID : 264330602719

Option 4 ID : 264330602720

Status : Answered

Chosen Option : 2

Q.15 3 के प्रथम 13 गुणजों का औसत क्या है?

- Ans
- 1. 42
 - 2. 21
 - 3. 39
 - 4. 35

Question ID : 264330155725

Option 1 ID : 264330610306

Option 2 ID : 264330610304

Option 3 ID : 264330610303

Option 4 ID : 264330610305

Status : Answered

Chosen Option : 3

Q.16 प्रत्येक 2 cm व्यास वाली ठोस सीसे की गेंदों की संख्या ज्ञात कीजिए जो 14 cm व्यास वाले एक सीसे के ठोस गोले से बनाई जा सकती हैं।

- Ans
- 1. 430
 - 2. 343
 - 3. 433
 - 4. 340

Question ID : 264330156017
Option 1 ID : 264330611467
Option 2 ID : 264330611468
Option 3 ID : 264330611469
Option 4 ID : 264330611470
Status : Answered
Chosen Option : 2

Q.17 आकाश, अरविंद से तीन गुना अच्छा काम करता है और इसलिए वह अरविंद से 30 दिन कम में किसी काम को पूरा कर सकता है। यदि वे साथ मिलकर काम करें, तो वे काम को कितने दिनों में पूरा कर सकते हैं?

- Ans
- 1. $12\frac{1}{4}$
 - 2. $11\frac{3}{4}$
 - 3. $11\frac{1}{4}$
 - 4. $12\frac{3}{4}$

Question ID : 264330156117
Option 1 ID : 264330611869
Option 2 ID : 264330611868
Option 3 ID : 264330611867
Option 4 ID : 264330611870
Status : Not Answered
Chosen Option : --

Q.18 28 cm आधार की त्रिज्या और 45 cm की ऊंचाई वाले शंकु का कुल पृष्ठीय क्षेत्रफल (cm^2 में) क्या होगा? ($\pi = \frac{22}{7}$ का प्रयोग करें)

- Ans
- 1. 8168
 - 2. 7128
 - 3. 9216
 - 4. 6288

Question ID : 264330156540
Option 1 ID : 264330613547
Option 2 ID : 264330613548
Option 3 ID : 264330613549
Option 4 ID : 264330613550
Status : Answered
Chosen Option : 2

Q.19 यदि दो प्रकार के अनाज जिनका मूल्य क्रमशः ₹202 प्रति किलोग्राम और ₹250 प्रति किलोग्राम है, को 7 : 5 के अनुपात में मिलाया जाता है, तो परिणामी मिश्रण का प्रति किलोग्राम में मूल्य (₹ में) कितना है?

- Ans 1. 222
 2. 220
 3. 218
 4. 225

Question ID : 264330155693
Option 1 ID : 264330610177
Option 2 ID : 264330610176
Option 3 ID : 264330610175
Option 4 ID : 264330610178
Status : Answered
Chosen Option : 1

Q.20 एक कार की चाल 90 km/h है। कार द्वारा 7 सेकंड में तय की गई दूरी कितनी होगी?

- Ans 1. 175 मीटर
 2. 180 मीटर
 3. 172 मीटर
 4. 170 मीटर

Question ID : 264330155968
Option 1 ID : 264330611273
Option 2 ID : 264330611271
Option 3 ID : 264330611274
Option 4 ID : 264330611272
Status : Answered
Chosen Option : 1

Section : Reasoning Ability and Problem Solving

Q.1 अंग्रेजी वर्णमाला क्रम के आधार पर KGTO, HDQL से एक निश्चित प्रकार से संबंधित है। उसी प्रकार, YFSH, VCPE से संबंधित है। समान तर्क का अनुसरण करते हुए, GUMS निम्नलिखित में से किससे संबंधित है?

- Ans 1. JXOU
 2. ESKU
 3. DRJP
 4. DSKP

Question ID : 264330151677
Option 1 ID : 264330594338
Option 2 ID : 264330594337
Option 3 ID : 264330594336
Option 4 ID : 264330594335
Status : Answered
Chosen Option : 3

Q.2 यदि निम्नलिखित आकृति श्रृंखला को जारी रखना हो तो कौन-सी आकृति प्रश्न चिन्ह (?) के स्थान पर आनी चाहिए?

X	□	L	8	X	F	3	C	X	□	3	L	
	3		L		8		X					?
8	C	F	C	□	3	□	F	L	F	C	8	

Ans

✗ 1.

F	C	3
	□	
X	8	L

✗ 2.

8	L	3
	□	
C	F	X

✗ 3.

3	L	F
	□	
C	8	X

✓ 4.

8	F	3
	□	
C	L	X

KD Job Updates

Question ID : 264330154760
 Option 1 ID : 264330606506
 Option 2 ID : 264330606504
 Option 3 ID : 264330606503
 Option 4 ID : 264330606505
 Status : Answered
 Chosen Option : 1

Q.3 यदि 5 अक्टूबर 2003 को रविवार है, तो 14 जुलाई 2010 को सप्ताह का कौन-सा दिन होगा?

- Ans
- ✗ 1. शनिवार
 - ✗ 2. सोमवार
 - ✓ 3. बुधवार
 - ✗ 4. शुक्रवार

Question ID : 264330154356
 Option 1 ID : 264330604887
 Option 2 ID : 264330604889
 Option 3 ID : 264330604890
 Option 4 ID : 264330604888
 Status : Answered
 Chosen Option : 3

Q.4 अंग्रेजी वर्णमाला क्रम के आधार पर दी गई श्रृंखला में प्रश्न चिह्न '?' के स्थान पर कौन-सा अक्षर-समूह आना चाहिए?

MQA, NRE, OSI, PTM, ?

- Ans
- 1. QWN
 - 2. SUM
 - 3. RVO
 - 4. QUQ

Question ID : 264330156297

Option 1 ID : 264330612587

Option 2 ID : 264330612590

Option 3 ID : 264330612588

Option 4 ID : 264330612589

Status : Answered

Chosen Option : 4

Q.5 निम्नलिखित संख्या-युग्मों में, पहली संख्या पर कुछ गणितीय संक्रियाएँ करके दूसरी संख्या प्राप्त की जाती है। उस समुच्चय को चुनिए जिसमें संख्याएँ ठीक उसी प्रकार संबंधित हैं जिस प्रकार निम्नलिखित समुच्चयों की संख्याएँ संबंधित हैं।
(ध्यान दें: संख्याओं को उनके घटक अंकों में अलग-अलग किए बिना, पूर्ण संख्याओं पर संक्रियाएँ की जानी चाहिए। उदा. 13 - संख्या 13 पर संक्रियाएँ जैसे 13 को जोड़ना, घटाना, गुणा करना आदि किया जा सकता है। 13 को 1 और 3 में अलग-अलग करने की ओर फिर 1 और 3 पर गणितीय संक्रियाएँ करने की अनुमति नहीं है।)

11 : 60

13 : 70

- Ans
- 1. 15 : 80
 - 2. 19 : 90
 - 3. 17 : 85
 - 4. 21 : 100

Question ID : 264330154649

Option 1 ID : 264330606059

Option 2 ID : 264330606062

Option 3 ID : 264330606060

Option 4 ID : 264330606061

Status : Answered

Chosen Option : 1

Q.6 यदि G का अर्थ '-', A का अर्थ 'x', F का अर्थ '+', B का अर्थ '÷' है, तो निम्नलिखित समीकरण में प्रश्न चिह्न (?) के स्थान पर क्या आएगा?
37 B 16 A 3 G 88 F 8 = ?

- Ans
- 1. 93
 - 2. 69
 - 3. 74
 - 4. 51

Question ID : 264330154685

Option 1 ID : 264330606206

Option 2 ID : 264330606204

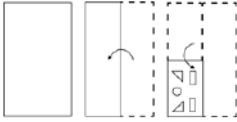
Option 3 ID : 264330606205

Option 4 ID : 264330606203

Status : Answered

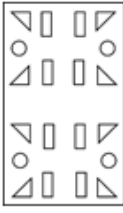
Chosen Option : 3

Q.7 निम्नलिखित आकृतियों में एक कागज़ के टुकड़े को मोड़ने के क्रम और मुड़े हुए कागज़ को काटने के तरीके को दर्शाया गया है। खोलने पर यह कागज़ कैसा दिखाई देगा?

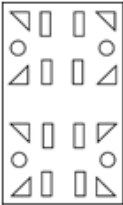


Ans

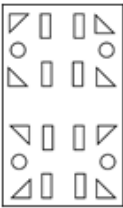
✓ 1.



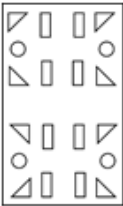
✗ 2.



✗ 3.



✗ 4.



Question ID : 264330155612

Option 1 ID : 264330609853

Option 2 ID : 264330609851

Option 3 ID : 264330609854

Option 4 ID : 264330609852

Status : Not Answered

Chosen Option : --

Q.8 एक निश्चित कूट भाषा में, 'PING' को '62' लिखा जाता है और 'HAZE' को '68' लिखा जाता है। उस कूट भाषा में 'GOAT' को कैसे लिखा जाएगा?

Ans ✗ 1. 69

✗ 2. 66

✗ 3. 67

✓ 4. 65

Question ID : 264330155833

Option 1 ID : 264330610735

Option 2 ID : 264330610737

Option 3 ID : 264330610736

Option 4 ID : 264330610738

Status : Not Answered

Chosen Option : --

Q.9 यदि '+' और '-' को आपस में बदल दिया जाए और 'x' और '÷' को आपस में बदल दिया जाए तो निम्नलिखित समीकरण में '?' के स्थान पर क्या आएगा?
 $7 + 3 - 6 + 4 \times 4 = ?$

- Ans
- 1. 4
 - 2. 15
 - 3. 10
 - 4. 7

Question ID : 264330154668
Option 1 ID : 264330606136
Option 2 ID : 264330606137
Option 3 ID : 264330606138
Option 4 ID : 264330606135
Status : Answered
Chosen Option : 3

Q.10 अक्षरों के उस संयोजन को चुनिए जिसे दी गई श्रृंखला के रिक्त स्थानों में क्रमिक रूप से रखने पर श्रृंखला पूरी हो जाएगी।

_ KL _ K _ KK _ _ KL

- Ans
- 1. LKLKL
 - 2. KLKLL
 - 3. KKLLK
 - 4. LLKLL

Question ID : 264330151636
Option 1 ID : 264330594172
Option 2 ID : 264330594173
Option 3 ID : 264330594171
Option 4 ID : 264330594174
Status : Answered
Chosen Option : 3

Q.11 दी गई श्रृंखला में प्रश्न चिन्ह '?' के स्थान पर क्या आना चाहिए?

11 44 143 440 1331 ?

- Ans
- 1. 4118
 - 2. 4004
 - 3. 3996
 - 4. 4266

Question ID : 264330151476
Option 1 ID : 264330593533
Option 2 ID : 264330593532
Option 3 ID : 264330593531
Option 4 ID : 264330593534
Status : Answered
Chosen Option : 2

Q.12 N, O, P, Q, R, S, T और U एक वर्गाकार मेज के चारों ओर केंद्र की ओर मुख करके बैठे हैं। उनमें से कुछ मेज के कोनों पर बैठे हैं जबकि कुछ भुजाओं के ठीक मध्य में बैठे हैं। N, U के बाईं ओर से तीसरे स्थान पर बैठा है। U किसी भी एक कोने में बैठा है। O, T के दाईं ओर से तीसरे स्थान पर बैठा है। T किसी एक कोने में बैठा है। P और U का निकटतम पड़ोसी Q है। P, N का पड़ोसी नहीं है। R, T का पड़ोसी नहीं है। P के दाईं ओर से गिनने पर P और R के बीच में कितने व्यक्ति बैठे हैं?

- Ans**
- 1. एक
 - 2. चार
 - 3. तीन
 - 4. दो

Question ID : 264330155541
Option 1 ID : 264330609567
Option 2 ID : 264330609570
Option 3 ID : 264330609569
Option 4 ID : 264330609568
Status : Not Answered
Chosen Option : --

Q.13 दी गई श्रृंखला में प्रश्न चिन्ह '?' के स्थान पर क्या आना चाहिए?

2 9 30 93 282 ?

- Ans**
- 1. 861
 - 2. 849
 - 3. 857
 - 4. 813

Question ID : 264330151465
Option 1 ID : 264330593490
Option 2 ID : 264330593488
Option 3 ID : 264330593489
Option 4 ID : 264330593487
Status : Answered
Chosen Option : 2

Q.14 अक्षरों के उस संयोजन को चुनिए जिसे दी गई श्रृंखला के रिक्त स्थानों में क्रमिक रूप से रखने पर श्रृंखला पूरी हो जाएगी।

_ML_MLLM_L_

- Ans**
- 1. LLLML
 - 2. MLMML
 - 3. LLMLM
 - 4. MMLMM

Question ID : 264330151639
Option 1 ID : 264330594183
Option 2 ID : 264330594186
Option 3 ID : 264330594185
Option 4 ID : 264330594184
Status : Answered
Chosen Option : 1

Q.15 नीचे दिए गए कथनों और निष्कर्षों को ध्यानपूर्वक पढ़िए। आपको मानना है कि दिए गए कथन सत्य हैं चाहे वे समान्यतः ज्ञात तथ्यों से अलग प्रतीत होते हों। आपको निश्चय करना है कि कौन-सा/कौन-से निष्कर्ष तार्किक रूप से दिए गए कथनों के अनुसार है/हैं।

कथन: सभी सुइयां, कीलें हैं। कुछ कीलें, लकड़ी हैं। सभी लकड़ी, कप हैं।

निष्कर्ष I: कुछ सुइयां, लकड़ी हैं।

निष्कर्ष II: सभी कप, कीलें हैं।

- Ans**
- ✗ 1. केवल निष्कर्ष (II) कथनों के अनुसार है।
 - ✗ 2. दोनों निष्कर्ष (I) और (II) कथनों के अनुसार हैं।
 - ✓ 3. न तो निष्कर्ष (I) और न ही (II) कथनों के अनुसार है।
 - ✗ 4. केवल निष्कर्ष (I) कथनों के अनुसार है।

Question ID : 264330155930

Option 1 ID : 264330611124

Option 2 ID : 264330611126

Option 3 ID : 264330611125

Option 4 ID : 264330611123

Status : Answered

Chosen Option : 3

Q.16 दी गई श्रृंखला में प्रश्न चिन्ह '?' के स्थान पर क्या आना चाहिए?

10 41 165 661 2645 ?

- Ans**
- ✗ 1. 10604
 - ✗ 2. 10597
 - ✓ 3. 10581
 - ✗ 4. 10378

Question ID : 264330151480

Option 1 ID : 264330593550

Option 2 ID : 264330593549

Option 3 ID : 264330593548

Option 4 ID : 264330593547

Status : Answered

Chosen Option : 3

Q.17 उस समुच्चय को चुनिए जिसमें संख्याएँ ठीक उसी प्रकार संबंधित हैं जिस प्रकार निम्नलिखित समुच्चयों की संख्याएँ संबंधित हैं।

(ध्यान दें: संख्याओं को उनके घटक अंकों में अलग-अलग किए बिना, पूर्ण संख्याओं पर संक्रियाएँ की जानी चाहिए। उदा. 13 – संख्या 13 पर संक्रियाएँ जैसे 13 को जोड़ना/घटाना/गुणा करना आदि किया जा सकता है। 13 को 1 और 3 में अलग-अलग करने की ओर फिर 1 और 3 पर गणितीय संक्रियाएँ करने की अनुमति नहीं है।)

(2, 14, 28)

(7, 11, 77)

Ans 1. 8, 6, 98

2. 6, 9, 54

3. 1, 7, 45

4. 4, 7, 23

Question ID : 264330151614

Option 1 ID : 264330594086

Option 2 ID : 264330594085

Option 3 ID : 264330594084

Option 4 ID : 264330594083

Status : Answered

Chosen Option : 2

Q.18 नीचे दिए गए कथनों और निष्कर्षों को ध्यानपूर्वक पढ़िए। आपको मानना है कि दिए गए कथन सत्य हैं चाहे वे समान्यतः ज्ञात तथ्यों से अलग प्रतीत होते हों। आपको निश्चय करना है कि कौन-सा/कौन-से निष्कर्ष तार्किक रूप से दिए गए कथनों के अनुसार है/हैं।

कथन: सभी जार, प्लास्टिक हैं। कुछ प्लास्टिक, चम्मच हैं। कोई चम्मच, काटा नहीं है।

निष्कर्ष I: कुछ प्लास्टिक, जार हैं।

निष्कर्ष II: कुछ काटे, चम्मच हैं।

Ans 1. दोनों निष्कर्ष (I) और (II) कथनों के अनुसार हैं।

2. केवल निष्कर्ष (I) कथनों के अनुसार है।

3. न तो निष्कर्ष (I) और न ही (II) कथनों के अनुसार है।

4. केवल निष्कर्ष (II) कथनों के अनुसार है।

Question ID : 264330155899

Option 1 ID : 264330611002

Option 2 ID : 264330610999

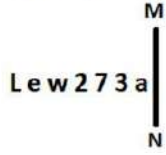
Option 3 ID : 264330611001

Option 4 ID : 264330611000

Status : Answered

Chosen Option : 2

Q.19 दी गई आकृति के उस सही दर्पण प्रतिबिंब को चुनिए, जो नीचे दर्शाए गए अनुसार दर्पण को MN पर रखने पर बनेगा।



- Ans
- ✓ 1.
 - ✗ 2.
 - ✗ 3.
 - ✗ 4.

Question ID : 264330151502

Option 1 ID : 264330593637

Option 2 ID : 264330593638

Option 3 ID : 264330593635

Option 4 ID : 264330593636

Status : Answered

Chosen Option : 1

Q.20 एक निश्चित कूट भाषा में, 'get more sleep' को 'wo bt gk' लिखा जाता है और 'less is more' को 'ap gk cm' लिखा जाता है। उसी कूट भाषा में 'more' को कैसे लिखा जाएगा?

- Ans
- ✗ 1. bt
 - ✗ 2. cm
 - ✓ 3. gk
 - ✗ 4. wo

Question ID : 264330151704

Option 1 ID : 264330594443

Option 2 ID : 264330594444

Option 3 ID : 264330594445

Option 4 ID : 264330594446

Status : Answered

Chosen Option : 3

Section : General Awareness

Q.1 रेखीय संवेग के मापन की इकाई क्या है?

- Ans
- ✗ 1. kg m/s^2
 - ✓ 2. kg m/s
 - ✗ 3. $\text{Kg}^2 \text{ m/s}$
 - ✗ 4. $\text{k}^2\text{g m/s}$

Question ID : 264330157779

Option 1 ID : 264330618477

Option 2 ID : 264330618475

Option 3 ID : 264330618476

Option 4 ID : 264330618478

Status : Answered

Chosen Option : 1

Q.2 कुतुब मीनार कहाँ स्थित है?

- Ans 1. लखनऊ
 2. दिल्ली
 3. आगरा
 4. चंडीगढ़

Question ID : 264330160767
Option 1 ID : 264330630400
Option 2 ID : 264330630401
Option 3 ID : 264330630402
Option 4 ID : 264330630399
Status : Answered
Chosen Option : 2

Q.3 विश्व महिला मुक्केबाजी चैम्पियनशिप 2023 (Women's World Boxing Championship 2023) में भारत की कितनी महिला मुक्केबाजों ने स्वर्ण पदक जीते?

- Ans 1. 2
 2. 1
 3. 4
 4. 3

Question ID : 264330158225
Option 1 ID : 264330620260
Option 2 ID : 264330620259
Option 3 ID : 264330620262
Option 4 ID : 264330620261
Status : Answered
Chosen Option : 1

Q.4 1921 में किसने विश्व भारती नामक प्रसिद्ध शैक्षणिक संस्थान की स्थापना की?

- Ans 1. रवीन्द्रनाथ टैगोर
 2. मदर टेरेसा
 3. विनोबा भावे
 4. स्वामी चिन्मयानंद

Question ID : 264330160885
Option 1 ID : 264330630874
Option 2 ID : 264330630873
Option 3 ID : 264330630872
Option 4 ID : 264330630871
Status : Answered
Chosen Option : 1

Q.5 विश्व की सबसे बड़ी मूंगा चट्टान, जिसे ग्रेट बैरियर रीफ (Great Barrier Reef) के नाम से जाना जाता है, की भौगोलिक स्थिति क्या है?

- Ans 1. ऑस्ट्रेलिया
 2. आयरलैंड
 3. चीन
 4. स्विट्जरलैंड

Question ID : 264330161313
Option 1 ID : 264330632581
Option 2 ID : 264330632579
Option 3 ID : 264330632582
Option 4 ID : 264330632580
Status : Answered
Chosen Option : 1

Q.6 आर. के. नारायण _____ के लेखक हैं।

- Ans
- 1. अनटचेबल
 - 2. फार फ्रॉम द मैडिंग क्राउड
 - 3. द गाइड
 - 4. गोदान

Question ID : 264330160971
Option 1 ID : 264330631216
Option 2 ID : 264330631217
Option 3 ID : 264330631218
Option 4 ID : 264330631215
Status : Answered
Chosen Option : 3

Q.7 मीराबाई चानू को BBC इंडियन स्पोर्ट्सवुमन ऑफ द ईयर 2022 चुना गया। वह किस खेल से संबंधित हैं?

- Ans
- 1. मुक्केबाजी
 - 2. डिस्कस थ्रो
 - 3. भाला फेंकना
 - 4. भारोत्तोलन

Question ID : 264330158367
Option 1 ID : 264330620827
Option 2 ID : 264330620830
Option 3 ID : 264330620829
Option 4 ID : 264330620828
Status : Answered
Chosen Option : 4

Q.8 शिशु पीलिया (infantile jaundice) का सबसे स्पष्ट लक्षण कौन-सा है जो आमतौर पर जन्म के बाद दूसरे और चौथे दिन के बीच दिखाई देता है?

- Ans
- 1. आंखों और त्वचा का रंग पीला पड़ जाना
 - 2. मसूड़ों में सूजन और खून आना
 - 3. मुंह के कोनों में दरारें और जलन
 - 4. सूजी हुई या फूली हुई एड़ियां

Question ID : 264330161080
Option 1 ID : 264330631652
Option 2 ID : 264330631654
Option 3 ID : 264330631653
Option 4 ID : 264330631651
Status : Answered
Chosen Option : 1

Q.9 2016 में पद्म श्री पुरस्कार प्राप्तकर्ता, प्रसिद्ध लोक कलाकार गुलाबो सपेरा, _____ नृत्य की प्रतिपादक हैं।

- Ans
- 1. डांडिया
 - 2. भवाई
 - 3. टिप्पनी
 - 4. कालबेलिया

Question ID : 264330155485
Option 1 ID : 264330609343
Option 2 ID : 264330609346
Option 3 ID : 264330609344
Option 4 ID : 264330609345
Status : Answered
Chosen Option : 4

Q.10 'माइन काम्फ (Mein Kampf)' किस विश्व विख्यात शख्सियत की आत्मकथा है?

- Ans
- 1. अल्बर्ट आइंस्टीन (Albert Einstein)
 - 2. चार्ली चैप्लिन (Charlie Chaplin)
 - 3. एडॉल्फ हिटलर (Adolf Hitler)
 - 4. रॉबर्ट मुगाबे (Robert Mugabe)

Question ID : 264330160966
Option 1 ID : 264330631197
Option 2 ID : 264330631195
Option 3 ID : 264330631196
Option 4 ID : 264330631198
Status : Answered
Chosen Option : 3

Q.11 मशहूर बॉलीवुड अदाकारा हेमा मालिनी एक प्रशिक्षित _____ नर्तकी हैं।

- Ans
- 1. कथक
 - 2. भरतनाट्यम
 - 3. ओडिसी
 - 4. कुचिपुड़ी

Question ID : 264330159066
Option 1 ID : 264330623626
Option 2 ID : 264330623625
Option 3 ID : 264330623624
Option 4 ID : 264330623623
Status : Answered
Chosen Option : 2

Q.12 भारत में ब्रिटिश शासन के दौरान लॉर्ड कर्जन ने बंगाल के विभाजन की घोषणा किस वर्ष की थी?

- Ans
- 1. 1906
 - 2. 1907
 - 3. 1905
 - 4. 1904

Question ID : 264330161737
Option 1 ID : 264330634277
Option 2 ID : 264330634278
Option 3 ID : 264330634276
Option 4 ID : 264330634275
Status : Answered
Chosen Option : 3

Q.13 जून 2023 तक हमारे संविधान में कितनी अनुसूचियां थीं?

- Ans
- 1. 10
 - 2. 9
 - 3. 12
 - 4. 8

Question ID : 264330159895
Option 1 ID : 264330626928
Option 2 ID : 264330626930
Option 3 ID : 264330626929
Option 4 ID : 264330626927
Status : Answered
Chosen Option : 3

Q.14 पंजाब राज्य निम्नलिखित में से किस प्राकृतिक संसाधन से समृद्ध है?

- Ans
- 1. उपजाऊ मिट्टी
 - 2. सिलिकॉन
 - 3. कोयला
 - 4. पेट्रोलियम

Question ID : 264330161493
Option 1 ID : 264330633300
Option 2 ID : 264330633302
Option 3 ID : 264330633301
Option 4 ID : 264330633299
Status : Answered
Chosen Option : 1

Q.15 बिह्र किस राज्य का लोक नृत्य है?

- Ans
- 1. असम
 - 2. बिहार
 - 3. छत्तीसगढ़
 - 4. अरुणाचल प्रदेश

Question ID : 264330159055
Option 1 ID : 264330623581
Option 2 ID : 264330623579
Option 3 ID : 264330623582
Option 4 ID : 264330623580
Status : Answered
Chosen Option : 1

Q.16 निम्नलिखित में से कौन-सा भारत में छः डाक व्यवहार के मार्ग (six communication mail channels) का हिस्सा नहीं है?

- Ans
- 1. राजधानी चैनल (Rajdhani channel)
 - 2. मेट्रो चैनल (Metro channel)
 - 3. मासिक चैनल (Monthly channel)
 - 4. बिजनेस चैनल (Business channel)

Question ID : 264330160144
Option 1 ID : 264330627915
Option 2 ID : 264330627918
Option 3 ID : 264330627916
Option 4 ID : 264330627917
Status : Not Answered
Chosen Option : --

Q.17 निम्नलिखित में से किस शहर में 2023 SAFF चैम्पियनशिप आयोजित की जाएगी?

- Ans 1. बेंगलुरु
 2. कोच्चि
 3. अहमदाबाद
 4. मुंबई

Question ID : 264330161149
Option 1 ID : 264330631929
Option 2 ID : 264330631928
Option 3 ID : 264330631930
Option 4 ID : 264330631927
Status : Answered
Chosen Option : 1

Q.18 किस भारतीय संगीतकार को उनके एल्बम 'प्लैनेट ड्रम' (Planet Drum) के लिए ग्रैमी पुरस्कार से सम्मानित किया गया था?

- Ans 1. जाकिर हुसैन
 2. दर्शन दोशी
 3. त्रिलोक गुर्तू
 4. शिवमणि

Question ID : 264330155461
Option 1 ID : 264330609247
Option 2 ID : 264330609250
Option 3 ID : 264330609249
Option 4 ID : 264330609248
Status : Answered
Chosen Option : 2

Q.19 गरीब कल्याण रोज़गार अभियान (GKRA) 2020 में कितने राज्यों का चयन किया गया?

- Ans 1. 16 राज्य
 2. 8 राज्य
 3. 10 राज्य
 4. 6 राज्य

Question ID : 264330160170
Option 1 ID : 264330628022
Option 2 ID : 264330628020
Option 3 ID : 264330628021
Option 4 ID : 264330628019
Status : Not Answered
Chosen Option : --

Q.20 गंगूबाई हंगल का संबंध मुख्य रूप से किस घराने से था?

- Ans
- 1. पटियाला
 - 2. आगरा
 - 3. किराना
 - 4. बनारस

Question ID : 264330155467
Option 1 ID : 264330609273
Option 2 ID : 264330609274
Option 3 ID : 264330609272
Option 4 ID : 264330609271
Status : Answered
Chosen Option : 2

Q.21 निम्नलिखित में से कौन-सा सरकारी बजट में गैर-ऋण पूंजी प्राप्ति का उदाहरण है?

- Ans
- 1. नागरिकों से वसूला गया राजस्व कर
 - 2. सरकारी बंधपत्र पर ब्याज भुगतान
 - 3. सरकारी-स्वामित्व वाली भूमि की बिक्री
 - 4. अंतर्राष्ट्रीय वित्तीय संस्थानों से ऋण

Question ID : 264330157279
Option 1 ID : 264330616481
Option 2 ID : 264330616482
Option 3 ID : 264330616480
Option 4 ID : 264330616479
Status : Not Answered
Chosen Option : --

Q.22 बैंकिंग में 'ब्याज' शब्द का क्या अर्थ है?

- Ans
- 1. ऋण या जमा पर अर्जित अतिरिक्त धनराशि
 - 2. बैंक खाते में जमा की गई धनराशि
 - 3. एटीएम से पैसे निकालने पर लिया जाने वाला शुल्क
 - 4. अन्य मुद्राओं के संबंध में एक मुद्रा का मूल्य

Question ID : 264330157299
Option 1 ID : 264330616561
Option 2 ID : 264330616560
Option 3 ID : 264330616559
Option 4 ID : 264330616562
Status : Answered
Chosen Option : 1

Q.23 पशुधन के व्यापार के लिए प्राचीन युग से लोकप्रिय, _____, जो एक महीने तक चलने वाला कार्यक्रम है, नवंबर के महीने में कार्तिक पूर्णिमा के शुभ अवसर पर हरिहर नाथ मंदिर के पास होता है।

- Ans
- 1. सोनपुर मेला
 - 2. राजगीर मेला
 - 3. पुष्कर मेला
 - 4. अर्धकुंभ मेला

Question ID : 264330160835
Option 1 ID : 264330630671
Option 2 ID : 264330630673
Option 3 ID : 264330630672
Option 4 ID : 264330630674
Status : Answered
Chosen Option : 1

Q.24 राज्य विधानमंडल (state legislature) में धन विधेयक पेश करने के लिए किसकी पूर्व अनुशंसा की आवश्यकता होती है?

- Ans
- 1. मुख्य मंत्री
 - 2. महाधिवक्ता
 - 3. सदन के अध्यक्ष
 - 4. राज्यपाल

Question ID : 264330159923
Option 1 ID : 264330627039
Option 2 ID : 264330627042
Option 3 ID : 264330627041
Option 4 ID : 264330627040
Status : Answered
Chosen Option : 4

Q.25 विद्युत क्षेत्र की पूर्णतः वितरण क्षेत्र योजना के संबंध में निम्नलिखित में से कौन-सा कथन सही है?

- 1) प्रधान मंत्री ने 2022 में बिजली मंत्रालय की प्रमुख पूर्णतः वितरण क्षेत्र योजना शुरू की।
- 2) इस योजना का उद्देश्य वितरण कंपनियों की परिचालन दक्षताओं और वित्तीय स्थायित्व में सुधार करना है।
- 3) वित्त वर्ष 2022-23 से वित्त वर्ष 2027-28 तक, इस योजना का लक्ष्य डिस्कॉम्स (DISCOMs) को वित्तीय सहायता प्रदान करना है।
- 4) इस योजना के तहत पूरे देश में उपभोक्ताओं को 25 करोड़ स्मार्ट प्रीपेड मीटर उपलब्ध कराने का प्रस्ताव है।

- Ans
- 1. 1, 3 और 4
 - 2. 1, 2 और 4
 - 3. 2, 3 और 4
 - 4. 1, 2 और 3

Question ID : 264330161404
Option 1 ID : 264330632944
Option 2 ID : 264330632945
Option 3 ID : 264330632946
Option 4 ID : 264330632943
Status : Not Answered
Chosen Option : --

Q.1 Select the most appropriate synonym of the given word.
Insist

- Ans** 1. Persist
 2. Resist
 3. Heist
 4. Assist

Question ID : 264330151824
Option 1 ID : 264330594926
Option 2 ID : 264330594924
Option 3 ID : 264330594923
Option 4 ID : 264330594925
Status : Answered
Chosen Option : 2

Q.2 Select the INCORRECTLY spelt word.

- Ans** 1. Inexpressible
 2. Assasin
 3. Mischievous
 4. Insurance

Question ID : 264330152691
Option 1 ID : 264330598370
Option 2 ID : 264330598369
Option 3 ID : 264330598367
Option 4 ID : 264330598368
Status : Answered
Chosen Option : 2

Q.3 Select the most appropriate ANTONYM of the given word.
Crude

- Ans** 1. Observant
 2. Patient
 3. Primitive
 4. Refined

Question ID : 264330153365
Option 1 ID : 264330601014
Option 2 ID : 264330601013
Option 3 ID : 264330601012
Option 4 ID : 264330601011
Status : Answered
Chosen Option : 4

Q.4 Select the most appropriate meaning of the underlined segment in the given sentence.
Buying a new car can cost an arm and a leg.

- Ans** 1. Be free
 2. Be expensive
 3. Be reasonable
 4. Be affordable

Question ID : 264330152926
Option 1 ID : 264330599284
Option 2 ID : 264330599283
Option 3 ID : 264330599286
Option 4 ID : 264330599285
Status : Answered
Chosen Option : 2

Q.5 Select the most appropriate meaning of the underlined idiom in the given sentence.

Rina's house is at a stone's throw from the school.

- Ans 1. A very short distance
 2. Next to
 3. A very long distance
 4. Not very close to

Question ID : 264330152877
Option 1 ID : 264330599100
Option 2 ID : 264330599101
Option 3 ID : 264330599099
Option 4 ID : 264330599102
Status : Answered
Chosen Option : 1

Q.6 Parts of the given sentence have been underlined. One of them contains an error. The underlined parts are given as options with some changes. Select the option that correctly rectifies the error.

The new restaurant on Main Street is cheap than the old one.

- Ans 1. newer restaurant
 2. in Main Street
 3. is cheaper than
 4. the older one

Question ID : 264330153171
Option 1 ID : 264330600243
Option 2 ID : 264330600244
Option 3 ID : 264330600245
Option 4 ID : 264330600246
Status : Answered
Chosen Option : 3

Q.7 Parts of the following sentence have been underlined and given as options. Select the option that contains an error.

My relatives shall have reached Amritsar by now.

- Ans 1. shall
 2. My
 3. by now
 4. reached

Question ID : 264330153189
Option 1 ID : 264330600316
Option 2 ID : 264330600315
Option 3 ID : 264330600318
Option 4 ID : 264330600317
Status : Answered
Chosen Option : 1

Q.8 Select the most appropriate meaning of the underlined idiom.

The actor decided to live life in the fast lane.

- Ans
- 1. Racing away to the moon
 - 2. A life of extreme speed
 - 3. A life filled with excitement
 - 4. Dropping charges of crime

Question ID : 264330153144

Option 1 ID : 264330600136

Option 2 ID : 264330600135

Option 3 ID : 264330600138

Option 4 ID : 264330600137

Status : Answered

Chosen Option : 3

Q.9 The following sentence has been divided into four parts. Identify the part that contains an error.

(A) We are living / (B) here since / (C) the summer / (D) of last year.

- Ans
- 1. C
 - 2. B
 - 3. A
 - 4. D

Question ID : 264330152627

Option 1 ID : 264330598111

Option 2 ID : 264330598112

Option 3 ID : 264330598114

Option 4 ID : 264330598113

Status : Answered

Chosen Option : 2

Q.10 Select the most appropriate option to substitute the underlined segment in the given sentence.

Mohan unknowingly altered salt instead of sugar to the dessert making it taste terrible.

- Ans
- 1. amplified salt instead of sugar
 - 2. anguished salt instead of sugar
 - 3. added salt instead of sugar
 - 4. abridged salt instead of sugar

Question ID : 264330153435

Option 1 ID : 264330601263

Option 2 ID : 264330601264

Option 3 ID : 264330601266

Option 4 ID : 264330601265

Status : Answered

Chosen Option : 3

Q.11 Select the most appropriate synonym of the given word.
Diminish

- Ans** 1. Weaken
 2. Demote
 3. Relegate
 4. Prevent

Question ID : 264330151879
Option 1 ID : 264330595136
Option 2 ID : 264330595135
Option 3 ID : 264330595137
Option 4 ID : 264330595138
Status : Answered
Chosen Option : 3

Q.12 Parts of the following sentence have been given as options. Select the option that contains an error.
Sanjana rubbed her eyes hardly.

- Ans** 1. hardly
 2. Sanjana
 3. her eyes
 4. rubbed

Question ID : 264330152807
Option 1 ID : 264330598822
Option 2 ID : 264330598819
Option 3 ID : 264330598821
Option 4 ID : 264330598820
Status : Answered
Chosen Option : 1

Q.13 The following sentence has been divided into parts. One of them may contain an error. Select the part that contains the error from the given options. If you don't find any error, mark 'No error' as your answer.
A night alone / in a hotel / can be lonely prospect.

- Ans** 1. in a hotel
 2. can be lonely prospect
 3. A night alone
 4. No error

Question ID : 264330153195
Option 1 ID : 264330600340
Option 2 ID : 264330600341
Option 3 ID : 264330600339
Option 4 ID : 264330600342
Status : Answered
Chosen Option : 3

Q.14 Select the option that can be used as a one-word substitute for the given group of words.

A person who loves or collects books

- Ans 1. Bibliophile
 2. Anglophile
 3. Heliophile
 4. Paedophile

Question ID : 264330151866
Option 1 ID : 264330595083
Option 2 ID : 264330595085
Option 3 ID : 264330595086
Option 4 ID : 264330595084
Status : Answered
Chosen Option : 1

Q.15 Select the option that can be used as a one-word substitute for the given group of words.

Group of bees

- Ans 1. Swarm
 2. Gaggle
 3. Pack
 4. Shoal

Question ID : 264330151814
Option 1 ID : 264330594885
Option 2 ID : 264330594883
Option 3 ID : 264330594886
Option 4 ID : 264330594884
Status : Answered
Chosen Option : 3

Q.16 Select the most appropriate option to fill in the blank.
Can you quote any _____ in your favour?

- Ans 1. lines
 2. summary
 3. precedent
 4. answer

Question ID : 264330153357
Option 1 ID : 264330600982
Option 2 ID : 264330600979
Option 3 ID : 264330600980
Option 4 ID : 264330600981
Status : Answered
Chosen Option : 2

Q.17 Select the most appropriate option to fill in the blank.
Suresh has been learning Tamil _____ two months.

- Ans 1. for
 2. before
 3. from
 4. since

Question ID : 264330152732
Option 1 ID : 264330598529
Option 2 ID : 264330598530
Option 3 ID : 264330598527
Option 4 ID : 264330598528
Status : Answered
Chosen Option : 3

Q.18 Select the most appropriate idiom to fill in the blank.
I asked my friend to _____ against her employers who are doing wrong to her.

- Ans 1. fight fire with fire
 2. fine words butter no parsnips
 3. fight the good fight
 4. finders keepers, losers weepers

Question ID : 264330153297
Option 1 ID : 264330600745
Option 2 ID : 264330600746
Option 3 ID : 264330600743
Option 4 ID : 264330600744
Status : Answered
Chosen Option : 3

Q.19 Parts of the following sentence have been underlined and given as options. Select the option that contains a misspelt word.
The single most important factor that distinguishes those of us who succeed in any venture and those of us who don't is this 'instant coffee' attitude.

- Ans 1. distinguishes
 2. venture
 3. succeed
 4. attitude

Question ID : 264330151835
Option 1 ID : 264330594967
Option 2 ID : 264330594969
Option 3 ID : 264330594968
Option 4 ID : 264330594970
Status : Answered
Chosen Option : 3

Q.20 Select the INCORRECTLY spelt word.

- Ans
- 1. Discrepancy
 - 2. Wrestler
 - 3. Accompaniment
 - 4. Debatable

Question ID : 264330152786
Option 1 ID : 264330598736
Option 2 ID : 264330598737
Option 3 ID : 264330598738
Option 4 ID : 264330598735
Status : Answered
Chosen Option : 3

Comprehension:

In the following passage, some words have been deleted. Read the passage carefully and select the most appropriate option to fill in each blank.

There are several reasons why people might 1)_____ that homework is an unnecessary burden on children. Firstly, there is evidence to support the idea that homework 2)_____ nothing to improve educational outcomes. Countries such as Finland, where school children are not given homework, regularly top international educational league tables and outperform nations where setting homework is the norm. Secondly, many parents would agree that the school day is already 3)_____, and leaves their children too tired to do further study when they return home. 4)_____, it is recognised that play time is just as 5)_____ as study time from the perspective of brain development.

SubQuestion No : 21

Q.21 Select the most appropriate option to fill in blank 1.

- Ans
- 1. argue
 - 2. argues
 - 3. be argues
 - 4. have argue

Question ID : 264330153600
Option 1 ID : 264330601883
Option 2 ID : 264330601884
Option 3 ID : 264330601886
Option 4 ID : 264330601885
Status : Answered
Chosen Option : 4

Comprehension:

In the following passage, some words have been deleted. Read the passage carefully and select the most appropriate option to fill in each blank.

There are several reasons why people might 1)_____ that homework is an unnecessary burden on children. Firstly, there is evidence to support the idea that homework 2)_____ nothing to improve educational outcomes. Countries such as Finland, where school children are not given homework, regularly top international educational league tables and outperform nations where setting homework is the norm. Secondly, many parents would agree that the school day is already 3)_____, and leaves their children too tired to do further study when they return home. 4)_____, it is recognised that play time is just as 5)_____ as study time from the perspective of brain development.

SubQuestion No : 22

Q.22 Select the most appropriate option to fill in blank 2.

- Ans 1. will does
 2. has do
 3. does
 4. do

Question ID : 264330153601

Option 1 ID : 264330601890

Option 2 ID : 264330601887

Option 3 ID : 264330601889

Option 4 ID : 264330601888

Status : Answered

Chosen Option : 3

Comprehension:

In the following passage, some words have been deleted. Read the passage carefully and select the most appropriate option to fill in each blank.

There are several reasons why people might 1)_____ that homework is an unnecessary burden on children. Firstly, there is evidence to support the idea that homework 2)_____ nothing to improve educational outcomes. Countries such as Finland, where school children are not given homework, regularly top international educational league tables and outperform nations where setting homework is the norm. Secondly, many parents would agree that the school day is already 3)_____, and leaves their children too tired to do further study when they return home. 4)_____, it is recognised that play time is just as 5)_____ as study time from the perspective of brain development.

SubQuestion No : 23

Q.23 Select the most appropriate option to fill in blank 3.

- Ans 1. big enough
 2. not enough
 3. long enough
 4. enough of

Question ID : 264330153602

Option 1 ID : 264330601891

Option 2 ID : 264330601894

Option 3 ID : 264330601892

Option 4 ID : 264330601893

Status : Answered

Chosen Option : 3

Comprehension:

In the following passage, some words have been deleted. Read the passage carefully and select the most appropriate option to fill in each blank.

There are several reasons why people might 1)_____ that homework is an unnecessary burden on children. Firstly, there is evidence to support the idea that homework 2)_____ nothing to improve educational outcomes. Countries such as Finland, where school children are not given homework, regularly top international educational league tables and outperform nations where setting homework is the norm. Secondly, many parents would agree that the school day is already 3)_____, and leaves their children too tired to do further study when they return home. 4)_____, it is recognised that play time is just as 5)_____ as study time from the perspective of brain development.

SubQuestion No : 24

Q.24 Select the most appropriate option to fill in blank 4.

- Ans 1. Similarly
 2. Finally
 3. Usually
 4. Normally

Question ID : 264330153603

Option 1 ID : 264330601897

Option 2 ID : 264330601898

Option 3 ID : 264330601896

Option 4 ID : 264330601895

Status : Answered

Chosen Option : 3

Comprehension:

In the following passage, some words have been deleted. Read the passage carefully and select the most appropriate option to fill in each blank.

There are several reasons why people might 1)_____ that homework is an unnecessary burden on children. Firstly, there is evidence to support the idea that homework 2)_____ nothing to improve educational outcomes. Countries such as Finland, where school children are not given homework, regularly top international educational league tables and outperform nations where setting homework is the norm. Secondly, many parents would agree that the school day is already 3)_____, and leaves their children too tired to do further study when they return home. 4)_____, it is recognised that play time is just as 5)_____ as study time from the perspective of brain development.

SubQuestion No : 25

Q.25 Select the most appropriate option to fill in blank 5.

- Ans 1. beneficial
 2. confidential
 3. soon
 4. bad

Question ID : 264330153604

Option 1 ID : 264330601900

Option 2 ID : 264330601901

Option 3 ID : 264330601899

Option 4 ID : 264330601902

Status : Answered

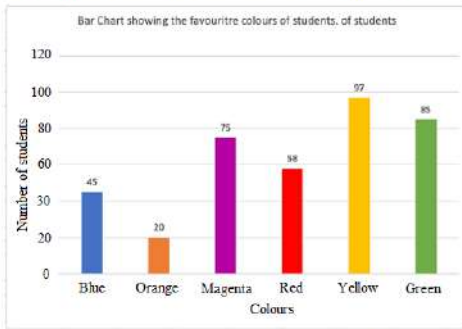
Chosen Option : 1

Multi Tasking Non Technical Staff and Havaladar CBIC and CBN Examination 2023

Roll Number	KD Job Updates
Candidate Name	KD Job Updates
Venue Name	Maharishi Arvind Institute of Engineering and Technology
Exam Date	05/09/2023
Exam Time	12:30 PM - 2:30 PM
Subject	MTS Non Tech Havaladar CBIC and CBN Examination 2023

Section : Numerical and Mathematical Ability

Q.1 निम्नलिखित दंड आलेख में एक कक्षा के 380 छात्रों के पसंदीदा रंगों को दर्शाया गया है। दंड आलेख का अध्ययन कीजिए और उसके आधार पर प्रश्न का उत्तर दीजिए।



संदर्भ: Bar Chart showing the favourite colours of students - छात्रों के पसंदीदा रंगों को दर्शाता दंड आलेख, Number of students - छात्रों की संख्या, Colours - रंग, Blue - नीला, Orange - नारंगी, Magenta - मैजेंटा, Red - लाल, Yellow - पीला, Green - हरा

नीला, मैजेंटा, लाल और पीला रंग पसंद करने वाले छात्रों की कुल संख्या, कक्षा में छात्रों की कुल संख्या का कितना प्रतिशत (निकटतम पूर्णांक तक सन्निकटित) है?

- Ans
- 1. 77%
 - 2. 72%
 - 3. 69%
 - 4. 64%

Question ID : 264330153782

Option 1 ID : 264330602593

Option 2 ID : 264330602594

Option 3 ID : 264330602592

Option 4 ID : 264330602591

Status : Answered

Chosen Option : 2

Q.2 एक लम्ब वृत्तीय शंकु की ऊंचाई 9.8 cm और उसकी आधार की विज्या 4 cm है। इसे पिघलाकर 3.5 cm आधार की विज्या वाले एक लम्ब वृत्तीय शंकु में पुनः ढाला जाता है। इसकी ऊंचाई ज्ञात कीजिए ? ($\pi = \frac{22}{7}$ का प्रयोग कीजिए)।

- Ans**
- 1. 18.2 cm
 - 2. 21.8 cm
 - 3. 12.8 cm
 - 4. 28.1 cm

Question ID : 264330156293
Option 1 ID : 264330612571
Option 2 ID : 264330612574
Option 3 ID : 264330612572
Option 4 ID : 264330612573
Status : Answered
Chosen Option : 3

Q.3 एक यात्रा की कुल दूरी 800 km है। यदि एक कार यात्रा के पहले 320 km की दूरी 64 km/hr की चाल से तय करती है, तो अगले 480 km की चाल क्या होनी चाहिए ताकि औसत चाल 80 km/hr हो जाए?

- Ans**
- 1. 86 km/hr
 - 2. 96 km/hr
 - 3. 69 km/hr
 - 4. 89 km/hr

Question ID : 264330156550
Option 1 ID : 264330613588
Option 2 ID : 264330613590
Option 3 ID : 264330613587
Option 4 ID : 264330613589
Status : Answered
Chosen Option : 2

Q.4 ₹29,120 के लाभ को A, B और C के बीच इस प्रकार बांटा जाता है कि A का हिस्सा B के हिस्से का $2\frac{1}{2}$ गुना हो और B का हिस्सा C के हिस्से का $1\frac{1}{5}$ गुना हो। B का हिस्सा ज्ञात कीजिए।

- Ans**
- 1. ₹6,940
 - 2. ₹7,140
 - 3. ₹6,720
 - 4. ₹7,820

Question ID : 264330156268
Option 1 ID : 264330612472
Option 2 ID : 264330612473
Option 3 ID : 264330612471
Option 4 ID : 264330612474
Status : Answered
Chosen Option : 3

Q.5 a और $\frac{a}{b^2}$ का माध्यानुपाती _____ है।

- Ans
- 1. $\frac{b}{a}$
 - 2. $\frac{a}{2b}$
 - 3. $\frac{a}{b}$
 - 4. ab

Question ID : 264330153808

Option 1 ID : 264330602697

Option 2 ID : 264330602696

Option 3 ID : 264330602695

Option 4 ID : 264330602698

Status : Answered

Chosen Option : 3

Q.6 एक स्कूल में छात्रों की संख्या में प्रत्येक एकांतर वर्ष (alternate year) में 20% की वृद्धि और कमी होती है। यह वर्ष 2015 में वृद्धि के साथ शुरू हुई और शुरुआत में छात्रों की संख्या 3000 थी। वर्ष 2017 में स्कूल में छात्रों की संख्या और छात्रों की संख्या में वृद्धि का प्रतिशत क्रमशः ज्ञात कीजिए।

- Ans
- 1. 4556, 17.2%
 - 2. 3556, 16.2%
 - 3. 3456, 15.2%
 - 4. 4456, 14.2%

Question ID : 264330155996

Option 1 ID : 264330611386

Option 2 ID : 264330611384

Option 3 ID : 264330611385

Option 4 ID : 264330611383

Status : Answered

Chosen Option : 3

Q.7 एक सिपाही एक चोर को 185 m की दूरी से देखता है। चोर भागने लगता है और सिपाही उसका पीछा करता है। चोर और सिपाही क्रमशः 8 m/s और 9 m/s की चाल से दौड़ते हैं। 2 मिनट बाद उनके बीच की दूरी कितनी है?

- Ans
- 1. 65 m
 - 2. 92 m
 - 3. 120 m
 - 4. 130 m

Question ID : 264330153882

Option 1 ID : 264330602991

Option 2 ID : 264330602993

Option 3 ID : 264330602992

Option 4 ID : 264330602994

Status : Answered

Chosen Option : 1

Q.8 तीन सदस्यों (माता, पिता और पुत्र) के एक परिवार की औसत आयु 44 वर्ष है। पुत्र की शादी के बाद परिवार की औसत आयु 39 वर्ष हो जाती है। बहू की आयु क्या है?

- Ans
- ✗ 1. 23 वर्ष
 - ✓ 2. 24 वर्ष
 - ✗ 3. 22 वर्ष
 - ✗ 4. 25 वर्ष

Question ID : 264330154116
Option 1 ID : 264330603929
Option 2 ID : 264330603928
Option 3 ID : 264330603930
Option 4 ID : 264330603927
Status : Answered
Chosen Option : 2

Q.9 तीन संख्याओं का महत्तम समापवर्तक (HCF) 57 है। यदि इन संख्याओं का अनुपात 4 : 5 : 6 है, तो संख्याएं ज्ञात कीजिए।

- Ans
- ✗ 1. 232, 290, 348
 - ✗ 2. 240, 300, 360
 - ✗ 3. 236, 295, 354
 - ✓ 4. 228, 285, 342

Question ID : 264330155722
Option 1 ID : 264330610292
Option 2 ID : 264330610294
Option 3 ID : 264330610291
Option 4 ID : 264330610293
Status : Answered
Chosen Option : 4

Q.10 नीचे दी गई तालिका में एक परीक्षा में चार छात्रों A, B, C और D द्वारा चार विषयों में प्राप्त किए गए अंकों को दर्शाया गया है। प्रत्येक विषय के लिए अधिकतम अंक 100 हैं।

छात्र	अंग्रेजी	हिंदी	गणित	विज्ञान
A	90	89	100	93
B	85	86	88	95
C	94	92	96	89
D	87	90	97	82

चार छात्रों के गणित और हिंदी के मिलाकर लिए गए औसत अंक, अंग्रेजी और विज्ञान के मिलाकर लिए गए औसत अंकों की तुलना में कितने प्रतिशत अधिक/कम (दशमलव के 1 स्थान तक सन्निकटित) हैं?

- Ans
- ✗ 1. अधिक, 2.4%
 - ✗ 2. कम, 3.2%
 - ✗ 3. कम, 2.4%
 - ✓ 4. अधिक, 3.2%

Question ID : 264330153779
Option 1 ID : 264330602581
Option 2 ID : 264330602580
Option 3 ID : 264330602582
Option 4 ID : 264330602579
Status : Answered
Chosen Option : 4

Q.11 निम्नलिखित व्यंजक को सरल कीजिए।

$$2 \div [2 + 2 \div \{2 + 2 \div (2 + 2 \div 3)\}]$$

- Ans
- 1. $\frac{13}{15}$
 - 2. $\frac{19}{15}$
 - 3. $\frac{11}{15}$
 - 4. $\frac{17}{15}$

Question ID : 264330156068

Option 1 ID : 264330611671

Option 2 ID : 264330611674

Option 3 ID : 264330611673

Option 4 ID : 264330611672

Status : Answered

Chosen Option : 3

Q.12 तुषार, मेघा, पूनम और ऋचा एक काम को क्रमशः 10 दिन, 12 दिन, 15 दिन और 18 दिन में पूरा कर सकते हैं। यदि उनमें से हर एक बारी-बारी से एक दिन छोड़कर काम करें और मेघा पहले दिन काम शुरू करती है और उसके बाद, पूनम दूसरे दिन फिर ऋचा तीसरे दिन और तुषार चौथे दिन और फिर मेघा पांचवें दिन इसी प्रकार आगे काम करते रहते हैं, तो काम कितने दिनों में पूरा हो जाएगा?

- Ans
- 1. 13
 - 2. 10
 - 3. 14
 - 4. 12

Question ID : 264330156195

Option 1 ID : 264330612182

Option 2 ID : 264330612179

Option 3 ID : 264330612181

Option 4 ID : 264330612180

Status : Answered

Chosen Option : 1

Q.13 निकिता ने दो निवेश किए, वह एक निवेश पर 10% अर्जित करती है और दूसरे निवेश पर उसे 20% की हानि होती है। यदि निवेश 2 : 3 के अनुपात में थे, तो उसका लाभ या हानि प्रतिशत कितना है?

- Ans
- 1. 8% की हानि
 - 2. 8% का लाभ
 - 3. 15% का लाभ
 - 4. 15% की हानि

Question ID : 264330154046

Option 1 ID : 264330603650

Option 2 ID : 264330603649

Option 3 ID : 264330603647

Option 4 ID : 264330603648

Status : Answered

Chosen Option : 1

Q.14 36 वर्ग इकाई क्षेत्रफल वाले एक वर्ग की भुजाओं के मध्य बिन्दुओं का प्रयोग करते हुए एक अन्य वर्ग बनाया जाता है। नए बने वर्ग का क्षेत्रफल वर्ग इकाई में क्या है?

- Ans**
- 1. 18
 - 2. 27
 - 3. 24
 - 4. 21

Question ID : 264330153824

Option 1 ID : 264330602759

Option 2 ID : 264330602760

Option 3 ID : 264330602761

Option 4 ID : 264330602762

Status : Answered

Chosen Option : 1

Q.15 एक आदमी साइकिल से एक स्थान तक जाने और वहाँ से स्कूटर से वापस आने में 8 घंटे 30 मिनट का समय लेता है। यदि वह दोनों ओर की यात्रा साइकिल से करता है, तो उसे 10 घंटे लगते हैं। उसे स्कूटर से दोनों ओर की यात्रा करने में कितना समय लगेगा (घंटों में)?

- Ans**
- 1. $3\frac{1}{2}$
 - 2. 7
 - 3. 4
 - 4. $4\frac{1}{2}$

Question ID : 264330156007

Option 1 ID : 264330611428

Option 2 ID : 264330611430

Option 3 ID : 264330611429

Option 4 ID : 264330611427

Status : Answered

Chosen Option : 2

Q.16 एक स्कूल में एक कक्षा के दो वर्ग हैं। वर्ग A में 30 छात्र हैं और वर्ग B में 20 छात्र हैं। वर्ग A में छात्रों का औसत प्राप्तांक 85 है, और वर्ग B में छात्रों का औसत प्राप्तांक 70 है। कक्षा का कुल औसत प्राप्तांक क्या है?

- Ans**
- 1. 79
 - 2. 78
 - 3. 80
 - 4. 81

Question ID : 264330156254

Option 1 ID : 264330612417

Option 2 ID : 264330612418

Option 3 ID : 264330612416

Option 4 ID : 264330612415

Status : Answered

Chosen Option : 1

Q.17 यदि ब्याज त्रैमासिक रूप से संयोजित किया जाता है, तो ₹75,000 की धनराशि 16% वार्षिक दर से एक वर्ष में कितनी हो जाएगी।
(दशमलव के दो स्थानों तक सन्निकटित)

- Ans
- 1. ₹87,379.40
 - 2. ₹87,739.40
 - 3. ₹89,773.40
 - 4. ₹87,937.40

Question ID : 264330156364
Option 1 ID : 264330612857
Option 2 ID : 264330612855
Option 3 ID : 264330612858
Option 4 ID : 264330612856
Status : Answered
Chosen Option : 2

Q.18 12% वार्षिक दर से 15 माह में ₹6,000 का साधारण ब्याज कितना होगा?

- Ans
- 1. ₹600
 - 2. ₹900
 - 3. ₹800
 - 4. ₹750

Question ID : 264330155965
Option 1 ID : 264330611260
Option 2 ID : 264330611262
Option 3 ID : 264330611261
Option 4 ID : 264330611259
Status : Answered
Chosen Option : 2

Q.19 दिव्या ने एक रुपए में छः कैंडी खरीदी। 50% लाभ प्राप्त करने के लिए उसे एक रुपए में कितनी कैंडियां बेचनी होंगी?

- Ans
- 1. चार
 - 2. तीन
 - 3. दो
 - 4. एक

Question ID : 264330155704
Option 1 ID : 264330610222
Option 2 ID : 264330610221
Option 3 ID : 264330610220
Option 4 ID : 264330610219
Status : Answered
Chosen Option : 1

Q.20 रीना, रितु और सीता अकेले एक काम को क्रमशः 6 घंटे, 9 घंटे और 18 घंटे में पूरा कर सकती हैं। यदि वे साथ मिलकर काम करती हैं, तो उस काम को पूरा करने में उन्हें कितना समय (घंटों में) लगेगा?

- Ans** 1. 3
 2. 4
 3. 2
 4. 5

Question ID : 264330156237
Option 1 ID : 264330612348
Option 2 ID : 264330612349
Option 3 ID : 264330612347
Option 4 ID : 264330612350
Status : Answered
Chosen Option : 1

Section : Reasoning Ability and Problem Solving

Q.1 यदि '+' और '-' को आपस में बदल दिया जाए तथा 'x' और '÷' को आपस में बदल दिया जाए तो निम्नलिखित समीकरण में (?) के स्थान पर क्या आएगा?

$$52 \div 6 + 71 - 168 \times 8 = ?$$

- Ans** 1. 211
 2. 313
 3. 310
 4. 262

Question ID : 264330154619
Option 1 ID : 264330605940
Option 2 ID : 264330605942
Option 3 ID : 264330605939
Option 4 ID : 264330605941
Status : Answered
Chosen Option : 4


Q.2 दी गई श्रृंखला में प्रश्न चिह्न '?' के स्थान पर क्या आना चाहिए?

31 32 35 36 39 ?

- Ans** 1. 42
 2. 40
 3. 43
 4. 41

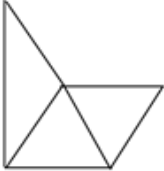
Question ID : 264330151547
Option 1 ID : 264330593817
Option 2 ID : 264330593815
Option 3 ID : 264330593818
Option 4 ID : 264330593816
Status : Answered
Chosen Option : 2

Q.3 पैटर्न को पूरा करने वाली आकृति को पहचानिए (घूर्णन की अनुमति नहीं है)।

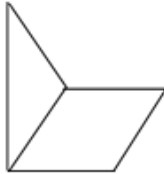


Ans

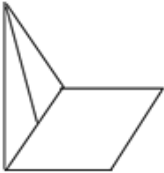
✗ 1.



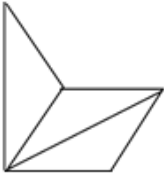
✓ 2.



✗ 3.



✗ 4.



KD Job Updates

Question ID : 264330154518

Option 1 ID : 264330605537

Option 2 ID : 264330605538

Option 3 ID : 264330605535

Option 4 ID : 264330605536

Status : Answered

Chosen Option : 2

Q.4 एक निश्चित कूट भाषा में, 'make your life' को 'uk ox zt' लिखा जाता है और 'life is good' को 'qr uk va' लिखा जाता है। उसी कूट भाषा में 'life' को कैसे लिखा जाएगा?

Ans

✗ 1. zt

✗ 2. ox

✓ 3. uk

✗ 4. qr

Question ID : 264330151692

Option 1 ID : 264330594395

Option 2 ID : 264330594398

Option 3 ID : 264330594397

Option 4 ID : 264330594396

Status : Answered

Chosen Option : 3

Q.5 एक निश्चित कूट भाषा में, 'ETHOS' को '15' लिखा जाता है और 'CHEERFUL' को '24' लिखा जाता है। उस कूट भाषा में 'CHIMNEY' को कैसे लिखा जाएगा?

- Ans
- 1. 18
 - 2. 19
 - 3. 23
 - 4. 21

Question ID : 264330155821
Option 1 ID : 264330610690
Option 2 ID : 264330610688
Option 3 ID : 264330610687
Option 4 ID : 264330610689
Status : Answered
Chosen Option : 4

Q.6 नीचे दिए गए कथनों और निष्कर्षों को ध्यानपूर्वक पढ़िए। आपको मानना है कि दिए गए कथन सत्य हैं चाहे वे समान्यतः ज्ञात तथ्यों से अलग प्रतीत होते हों। आपको निश्चय करना है कि कौन-सा/कौन-से निष्कर्ष तार्किक रूप से दिए गए कथनों के अनुसार है/हैं।

कथन: कुछ दीवारें, पत्थर हैं। सभी पत्थर, हीरे हैं। सभी हीरे, ईंटें हैं।

निष्कर्ष I: कुछ पत्थर, दीवारें हैं।
निष्कर्ष II: कुछ पत्थर, ईंटें हैं।

- Ans
- 1. दोनों निष्कर्ष (I) और (II) कथनों के अनुसार हैं।
 - 2. केवल निष्कर्ष (I) कथनों के अनुसार है।
 - 3. न तो निष्कर्ष (I) और न ही (II) कथनों के अनुसार है।
 - 4. केवल निष्कर्ष (II) कथनों के अनुसार है।

Question ID : 264330155932
Option 1 ID : 264330611134
Option 2 ID : 264330611131
Option 3 ID : 264330611133
Option 4 ID : 264330611132
Status : Answered
Chosen Option : 1

Q.7 दी गई श्रृंखला में प्रश्न चिन्ह '?' के स्थान पर क्या आना चाहिए?

7 30 122 490 1962 ?

- Ans
- 1. 7872
 - 2. 7760
 - 3. 7896
 - 4. 7850

Question ID : 264330151494
Option 1 ID : 264330593605
Option 2 ID : 264330593603
Option 3 ID : 264330593606
Option 4 ID : 264330593604
Status : Answered
Chosen Option : 4

Q.8 नीचे दिए गए कथन/कथनों और निष्कर्षों को ध्यानपूर्वक पढ़िए। आपको मानना है कि दिए गए कथन सत्य हैं चाहे वे समान्यतः ज्ञात तथ्यों से अलग प्रतीत होते हों। आपको निश्चय करना है कि कौन-सा/कौन-से निष्कर्ष तार्किक रूप से दिए गए कथन/कथनों के अनुसार है/हैं।
कथन: सभी ऑर्किड, फूल हैं। कुछ ऑर्किड, सुंदर हैं।
निष्कर्ष:
(I) कुछ फूल, सुंदर हैं।
(II) सभी सुंदर, फूल हैं।

- Ans**
- 1. केवल निष्कर्ष (II) कथनों के अनुसार है।
 - 2. न तो निष्कर्ष (I) और न ही (II) कथनों के अनुसार है।
 - 3. केवल निष्कर्ष (I) कथनों के अनुसार है।
 - 4. दोनों निष्कर्ष (I) और (II) कथनों के अनुसार हैं।

Question ID : 264330154434
Option 1 ID : 264330605200
Option 2 ID : 264330605201
Option 3 ID : 264330605199
Option 4 ID : 264330605202
Status : Answered
Chosen Option : 3

Q.9 यदि 3 मई 2010 को सोमवार है, तो 16 दिसंबर 2014 को सप्ताह का कौन-सा दिन होगा?

- Ans**
- 1. रविवार
 - 2. शुक्रवार
 - 3. शनिवार
 - 4. मंगलवार

Question ID : 264330154352
Option 1 ID : 264330604873
Option 2 ID : 264330604872
Option 3 ID : 264330604871
Option 4 ID : 264330604874
Status : Answered
Chosen Option : 2

Q.10 एक निश्चित तर्क के अनुसार 5, 19 से संबंधित है। समान तर्क के अनुसार, 8, 31 से संबंधित है। समान तर्क का अनुसरण करते हुए 13 निम्नलिखित में से किससे संबंधित है?

- Ans**
- 1. 52
 - 2. 51
 - 3. 53
 - 4. 50

Question ID : 264330151605
Option 1 ID : 264330594049
Option 2 ID : 264330594048
Option 3 ID : 264330594050
Option 4 ID : 264330594047
Status : Answered
Chosen Option : 2

Q.11 अंग्रेजी वर्णमाला क्रम के आधार पर दी गई श्रृंखला में प्रश्न चिह्न (?) के स्थान पर क्या आना चाहिए?

SDJ, UGL, WJN, YMP, ?

- Ans
- 1. BOR
 - 2. BQS
 - 3. CPS
 - 4. APR

Question ID : 264330155779

Option 1 ID : 264330610521

Option 2 ID : 264330610520

Option 3 ID : 264330610522

Option 4 ID : 264330610519

Status : Answered

Chosen Option : 4

Q.12 अंग्रेजी वर्णमाला क्रम के आधार पर दी गई श्रृंखला में प्रश्न चिह्न (?) के स्थान पर क्या आना चाहिए?

FVZ, GXA, HZB, IBC, ?

- Ans
- 1. IED
 - 2. KDF
 - 3. IEF
 - 4. JDD

Question ID : 264330155767

Option 1 ID : 264330610472

Option 2 ID : 264330610474

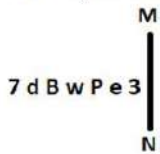
Option 3 ID : 264330610473

Option 4 ID : 264330610471

Status : Answered

Chosen Option : 4

Q.13 दी गई आकृति के उस सही दर्पण प्रतिबिंब को चुनिए, जो नीचे दर्शाए गए अनुसार दर्पण को MN पर रखने पर बनेगा।



- Ans
- 1. 3 e P w B b 7
 - 2. 3 e P w B P 7
 - 3. 3 e P w B b 7
 - 4. 7 q B w P e 3

Question ID : 264330151519

Option 1 ID : 264330593705

Option 2 ID : 264330593706

Option 3 ID : 264330593704

Option 4 ID : 264330593703

Status : Answered

Chosen Option : 1

Q.14 अक्षरों के उस संयोजन को चुनिए जिसे दी गई श्रृंखला के रिक्त स्थानों में क्रमिक रूप से रखने पर श्रृंखला तार्किक रूप से पूरी हो जाएगी।

F_HIFKO_ _RVTFY_TF_JT

- Ans
- 1. UJHNNH
 - 2. DTFCF
 - 3. DHJNF
 - 4. JFJMH

Question ID : 264330156320

Option 1 ID : 264330612682

Option 2 ID : 264330612680

Option 3 ID : 264330612681

Option 4 ID : 264330612679

Status : Answered

Chosen Option : 2

Q.15 दी गई श्रृंखला में प्रश्न चिन्ह '?' के स्थान पर क्या आना चाहिए?

16 31 76 ? 616 1831 5476

- Ans
- 1. 207
 - 2. 201
 - 3. 217
 - 4. 211

Question ID : 264330151446

Option 1 ID : 264330593412

Option 2 ID : 264330593411

Option 3 ID : 264330593414

Option 4 ID : 264330593413

Status : Answered

Chosen Option : 4

Q.16 मनु, राम, गौरव, शिवम, उमेश और वीर एक वृत्ताकार मेज के चारों ओर केंद्र की ओर मुख करके बैठे हैं। मनु, राम के बाईं ओर से दूसरे स्थान पर बैठा है। गौरव, राम के दाईं ओर से तीसरे स्थान पर बैठा है। शिवम, मनु के बाईं ओर से तीसरे स्थान पर बैठा है। उमेश, शिवम के बाईं ओर से दूसरे स्थान पर बैठा है। मनु के बाईं ओर से दूसरे स्थान पर कौन बैठा है?

- Ans
- 1. वीर
 - 2. उमेश
 - 3. राम
 - 4. गौरव

Question ID : 264330155647

Option 1 ID : 264330609992

Option 2 ID : 264330609993

Option 3 ID : 264330609994

Option 4 ID : 264330609991

Status : Answered

Chosen Option : 1

Q.17 यदि निम्नलिखित आकृति श्रृंखला को जारी रखना हो तो कौन-सी आकृति प्रश्न चिन्ह (?) के स्थान पर आनी चाहिए?

B R A I D	R B D A I	I A S B R A I R S B	?
-----------	-----------	---------------------	---

Ans

✓ 1.

B S T I A

✗ 2.

B A I R S

✗ 3.

I R T S A

✗ 4.

S B T A I

Question ID : 264330154767

Option 1 ID : 264330606531

Option 2 ID : 264330606532

Option 3 ID : 264330606534

Option 4 ID : 264330606533

Status : Answered

Chosen Option : 4

Q.18 यदि G का अर्थ -, C का अर्थ ×, D का अर्थ +, E का अर्थ = हे, तो निम्नलिखित समीकरण में प्रश्न चिह्न (?) के स्थान पर क्या आएगा?
64 D + G 37 E 12 C 7 = ?

Ans

✗ 1. 71

✗ 2. 36

✗ 3. 89

✓ 4. 63

Question ID : 264330154691

Option 1 ID : 264330606229

Option 2 ID : 264330606227

Option 3 ID : 264330606230

Option 4 ID : 264330606228

Status : Answered

Chosen Option : 4

Q.19 JR 11, KT 16 से एक निश्चित प्रकार से संबंधित है। उसी प्रकार, VM 22, WO 27 से संबंधित है। समान तर्क का अनुसरण करते हुए DS 18 निम्नलिखित में से किससे संबंधित है?

- Ans**
- 1. CQ 24
 - 2. EU 23
 - 3. FT 22
 - 4. FU 23

Question ID : 264330151678

Option 1 ID : 264330594342

Option 2 ID : 264330594340

Option 3 ID : 264330594341

Option 4 ID : 264330594339

Status : Answered

Chosen Option : 2

Q.20 निम्नलिखित संख्या-युग्मों में, पहली संख्या पर कुछ गणितीय संक्रियाएँ करके दूसरी संख्या प्राप्त की जाती है। उस समुच्चय को चुनिए जिसमें संख्याएँ ठीक उसी प्रकार संबंधित हैं जिस प्रकार निम्नलिखित समुच्चयों की संख्याएँ संबंधित हैं।
(ध्यान दें: संख्याओं को उनके घटक अंकों में अलग-अलग किए बिना, पूर्ण संख्याओं पर संक्रियाएँ की जानी चाहिए। उदा. 13 – संख्या 13 पर संक्रियाएँ जैसे 13 को जोड़ना/घटाना/गुणा करना आदि किया जा सकता है। 13 को 1 और 3 में अलग-अलग करने की ओर फिर 1 और 3 पर गणितीय संक्रियाएँ करने की अनुमति नहीं है।)

12 : 144
13 : 169

- Ans**
- 1. 9 : 80
 - 2. 15 : 225
 - 3. 10 : 90
 - 4. 14 : 182

Question ID : 264330154647

Option 1 ID : 264330606054

Option 2 ID : 264330606053

Option 3 ID : 264330606051

Option 4 ID : 264330606052

Status : Answered

Chosen Option : 2

Section : General Awareness

Q.1 अर्थव्यवस्था में व्यावसायिक बैंकों (commercial banks) की मुख्य भूमिका क्या है?

- Ans**
- 1. शेयर बाज़ार को विनियमित करना
 - 2. विदेशी मुद्रा भंडार का प्रबंधन
 - 3. आर्थिक वृद्धि और विकास को बढ़ावा देना
 - 4. महंगाई पर नियंत्रण

Question ID : 264330157307

Option 1 ID : 264330616592

Option 2 ID : 264330616594

Option 3 ID : 264330616593

Option 4 ID : 264330616591

Status : Answered

Chosen Option : 3

Q.2 सुभाष चंद्र बोस के राजनीतिक गुरु कौन थे?

- Ans
- 1. महात्मा गांधी
 - 2. एम. जी. रानाडे
 - 3. जवाहर लाल नेहरू
 - 4. चितरंजन दास

Question ID : 264330162344

Option 1 ID : 264330636703

Option 2 ID : 264330636705

Option 3 ID : 264330636704

Option 4 ID : 264330636706

Status : Marked For Review

Chosen Option : 1

Q.3 लैटेराइट मिट्टी का निर्माण निम्नलिखित में से किस कारण से होता है?

- Ans
- 1. संहनन
 - 2. अवसादन
 - 3. केवल उच्च तापमान
 - 4. निक्षालन

Question ID : 264330161315

Option 1 ID : 264330632589

Option 2 ID : 264330632587

Option 3 ID : 264330632590

Option 4 ID : 264330632588

Status : Answered

Chosen Option : 4

Q.4 मार्च 2023 में, राजस्थान अपने लोगों को ___ का अधिकार प्रदान करने वाला भारत का पहला राज्य बन गया।

- Ans
- 1. आवास
 - 2. स्वास्थ्य
 - 3. शिक्षा
 - 4. दूरसंचार

Question ID : 264330158335

Option 1 ID : 264330620700

Option 2 ID : 264330620701

Option 3 ID : 264330620699

Option 4 ID : 264330620702

Status : Answered

Chosen Option : 2

Q.5 गौर मारिया (Gaur Maria), _____ राज्य की एक नृत्य शैली, आनंद और आह्वान का एक प्रसिद्ध कला शैली है। यह एक समूह नृत्य है और इस नृत्य में पुरुष और महिलाएं दोनों उत्साहपूर्वक भाग लेते हैं।

- Ans
- 1. महाराष्ट्र
 - 2. राजस्थान
 - 3. छत्तीसगढ़
 - 4. गुजरात

Question ID : 264330160794
Option 1 ID : 264330630507
Option 2 ID : 264330630509
Option 3 ID : 264330630510
Option 4 ID : 264330630508
Status : Answered
Chosen Option : 3

Q.6 ऑटोबायोग्राफी ऑफ ए योगी (Autobiography of a Yogi) _____ की आत्मकथा है।

- Ans
- 1. रामकृष्ण परमहंस
 - 2. स्वामी दयानंद सरस्वती
 - 3. स्वामी विवेकानंद
 - 4. परमहंस योगानंद

Question ID : 264330160961
Option 1 ID : 264330631178
Option 2 ID : 264330631176
Option 3 ID : 264330631175
Option 4 ID : 264330631177
Status : Answered
Chosen Option : 4

Q.7 शास्त्रीय नृत्य के राष्ट्रीय पुरस्कार को _____ कहा जाता है।

- Ans
- 1. शास्त्रीय सम्मान
 - 2. अभिनंदन सरोजा पुरस्कार
 - 3. भारतीय पुरस्कार
 - 4. जातीय नृत्य सम्मान

Question ID : 264330160983
Option 1 ID : 264330631263
Option 2 ID : 264330631265
Option 3 ID : 264330631266
Option 4 ID : 264330631264
Status : Answered
Chosen Option : 1

Q.8 किस राज्य में जूट मिलों की अधिकतम संख्या (2022 तक) है?

- Ans
- 1. त्रिपुरा
 - 2. असम
 - 3. उत्तरप्रदेश
 - 4. पश्चिम बंगाल

Question ID : 264330161491
Option 1 ID : 264330633294
Option 2 ID : 264330633293
Option 3 ID : 264330633291
Option 4 ID : 264330633292
Status : Answered
Chosen Option : 4

Q.9 भीतरगांव ईंट मंदिर (Bhitargaon Brick temple) निम्नलिखित में से किस काल की वास्तुकला का एक अच्छा उदाहरण है?

- Ans
- 1. मुगल काल
 - 2. मौर्य काल
 - 3. गुप्त काल
 - 4. चोल काल

Question ID : 264330160782
Option 1 ID : 264330630461
Option 2 ID : 264330630459
Option 3 ID : 264330630460
Option 4 ID : 264330630462
Status : Answered
Chosen Option : 3

Q.10 निम्नलिखित में से भारत का कौन-सा भौगोलिक विभाजन जलोढ़ मृदा से बना है?

- Ans
- 1. उत्तरी मैदान
 - 2. हिमालय पर्वत
 - 3. प्रायद्वीपीय पठार
 - 4. द्वीप

Question ID : 264330161531
Option 1 ID : 264330633451
Option 2 ID : 264330633454
Option 3 ID : 264330633452
Option 4 ID : 264330633453
Status : Answered
Chosen Option : 1

Q.11 झारखंड का पाइका नृत्य (Paika dance) आमतौर पर _____ जनजाति द्वारा विशेष सम्मानित अतिथियों के स्वागत के लिए या धार्मिक जुलूस (शोभा यात्रा) के दौरान किया जाता है।

- Ans
- 1. संथाल (Santhal)
 - 2. ओरांव (Oraon)
 - 3. भूमिज (Bhumij)
 - 4. मुंडा (Munda)

Question ID : 264330160799
Option 1 ID : 264330630527
Option 2 ID : 264330630530
Option 3 ID : 264330630528
Option 4 ID : 264330630529
Status : Answered
Chosen Option : 1

Q.12 पूंजीगत व्यय क्या है?

- Ans
- 1. हेल्थकेयर कार्यक्रमों पर व्यय की गई धनराशि
 - 2. किसानों के लिए सब्सिडी पर व्यय की गई धनराशि
 - 3. ऋण चुकाने पर व्यय की गई धनराशि
 - 4. अवसंरचना (infrastructure) के विकास पर व्यय की गई धनराशि

Question ID : 264330157274
Option 1 ID : 264330616460
Option 2 ID : 264330616462
Option 3 ID : 264330616459
Option 4 ID : 264330616461
Status : Answered
Chosen Option : 4

Q.13 खेलो इंडिया यूनिवर्सिटी गेम्स के तीसरे संस्करण के शुभंकर का नाम क्या है?

- Ans 1. जीतू (Jitu)
 2. मोगा (Moga)
 3. सावज (Savaj)
 4. शेरा (Shera)

Question ID : 264330161133
Option 1 ID : 264330631863
Option 2 ID : 264330631865
Option 3 ID : 264330631866
Option 4 ID : 264330631864
Status : Answered
Chosen Option : 2

Q.14 भारत की जनगणना 2011 के अनुसार, किस राज्य में ऋणात्मक जनसंख्या वृद्धि दर दर्ज की गई?

- Ans 1. अरुणाचल प्रदेश
 2. केरल
 3. सिक्किम
 4. नागालैंड

Question ID : 264330161552
Option 1 ID : 264330633536
Option 2 ID : 264330633535
Option 3 ID : 264330633537
Option 4 ID : 264330633538
Status : Answered
Chosen Option : 3

Q.15 95 वर्षीय भगवानी देवी और 106 वर्षीय रामबाई को उनकी उपलब्धियों के लिए संयुक्त रूप से बीबीसी विशेष ट्रॉफी (BBC special trophy) से सम्मानित किया गया, जहां देवी ने फिनलैंड के टाम्परे (Tampere) में _____ में 100 मीटर स्प्रिंट में स्वर्ण पदक जीता।

- Ans 1. 2022 विश्व मास्टर्स एथलेटिक्स चैंपियनशिप (2022 World Masters Athletics Championships)
 2. 2022 राष्ट्रीय सीनियर खेल (2022 National Senior Games)
 3. सीनियर स्पोर्ट्स इंटरनेशनल मीट 2022 (Senior Sports International Meet 2022)
 4. हंट्समैन वर्ल्ड सीनियर गेम्स 2022 (Huntsman World Senior Games 2022)

Question ID : 264330161438
Option 1 ID : 264330633081
Option 2 ID : 264330633080
Option 3 ID : 264330633079
Option 4 ID : 264330633082
Status : Answered
Chosen Option : 1

Q.16 दूध, समुद्री भोजन, मेवे और साबुत अनाज में कौन-सा खनिज उच्च मात्रा में होता है जो हड्डियों के स्वास्थ्य और हमारे शरीर की मरम्मत प्रक्रिया में सहायता करता है?

- Ans
- 1. जिंक
 - 2. पोटेशियम
 - 3. फॉस्फोरस
 - 4. फ्लोराइड

Question ID : 264330161074
Option 1 ID : 264330631627
Option 2 ID : 264330631629
Option 3 ID : 264330631628
Option 4 ID : 264330631630
Status : Answered
Chosen Option : 3

Q.17 निम्नलिखित में से कौन-सी कैबिनेट समिति नहीं है?

- Ans
- 1. कैबिनेट की नियुक्ति समिति (Appointment Committee of the Cabinet)
 - 2. निवेश और विकास संबंधी समिति (Committee on Investment and Growth)
 - 3. मंत्रियों के बीच विवाद पर समिति (Committee on Conflicts among Ministers)
 - 4. राजनीतिक मामलों की समिति (Committee on Political Affairs)

Question ID : 264330160862
Option 1 ID : 264330630780
Option 2 ID : 264330630781
Option 3 ID : 264330630782
Option 4 ID : 264330630779
Status : Answered
Chosen Option : 2

Q.18 भारतीय संविधान का कौन-सा अनुच्छेद सभी श्रमिकों के लिए जीवनयापन योग्य वेतन और सामाजिक और सांस्कृतिक अवसरों के साथ एक सभ्य जीवन स्तर सुरक्षित करता है?

- Ans
- 1. अनुच्छेद 41
 - 2. अनुच्छेद 40
 - 3. अनुच्छेद 43
 - 4. अनुच्छेद 39

Question ID : 264330161398
Option 1 ID : 264330632921
Option 2 ID : 264330632920
Option 3 ID : 264330632922
Option 4 ID : 264330632919
Status : Answered
Chosen Option : 3

Q.19 शिक्षा और संस्कृति को बढ़ावा देने के लिए भारतीय विद्या भवन की स्थापना किसने की?

- Ans
- 1. गोपाल कृष्ण गोखले
 - 2. डॉ. आत्माराम पांडुरंग
 - 3. डॉ. कन्हैयालाल मानेकलाल मुंशी
 - 4. डॉ. बाबासाहेब अम्बेडकर

Question ID : 264330160882
Option 1 ID : 264330630859
Option 2 ID : 264330630860
Option 3 ID : 264330630861
Option 4 ID : 264330630862
Status : Answered
Chosen Option : 4

Q.20 ऑस्कर पुरस्कार (2023) विजेता गीत 'नाटू नाटू' के संगीत निर्देशक कौन हैं?

- Ans
- ✓ 1. एम.एम. कीरावनी
 - ✗ 2. ए.आर. रहमान
 - ✗ 3. उत्तम सिंह
 - ✗ 4. अनु मलिक

Question ID : 264330155504
Option 1 ID : 264330609422
Option 2 ID : 264330609421
Option 3 ID : 264330609419
Option 4 ID : 264330609420
Status : Answered
Chosen Option : 1

Q.21 _____ को जन्मे मोहनदास करमचंद गांधी, जिनका जन्मदिन गांधी जयंती के रूप में मनाया जाता है, ने अंग्रेजों के खिलाफ भारत के अहिंसा आंदोलन का सफलतापूर्वक नेतृत्व किया।

- Ans
- ✓ 1. 2 अक्टूबर 1869
 - ✗ 2. 2 अक्टूबर 1870
 - ✗ 3. 2 अक्टूबर 1867
 - ✗ 4. 2 अक्टूबर 1868

Question ID : 264330160856
Option 1 ID : 264330630757
Option 2 ID : 264330630758
Option 3 ID : 264330630755
Option 4 ID : 264330630756
Status : Answered
Chosen Option : 1

Q.22 टी.एन. राजरत्नम पिल्लई (TN Rajarathnam Pillai) निम्नलिखित में से कौन-से संगीत वाद्ययंत्र के वादक हैं?

- Ans
- ✗ 1. सारंगी
 - ✗ 2. शहनाई
 - ✗ 3. घटम
 - ✓ 4. नादस्वरम

Question ID : 264330155466
Option 1 ID : 264330609267
Option 2 ID : 264330609270
Option 3 ID : 264330609269
Option 4 ID : 264330609268
Status : Answered
Chosen Option : 3

Q.23 'माई कंट्री माई लाइफ' (My Country My Life) _____ की आत्मकथा है।

- Ans
- 1. अमित शाह
 - 2. एल. के. आडवाणी
 - 3. जसवंत सिंह
 - 4. राजनाथ सिंह

Question ID : 264330155492
Option 1 ID : 264330609371
Option 2 ID : 264330609374
Option 3 ID : 264330609373
Option 4 ID : 264330609372
Status : Answered
Chosen Option : 2

Q.24 India topped the medals table in the ISSF Junior World Cup 2023. Where was this competition held?

- Ans
- 1. Italy
 - 2. Australia
 - 3. Azerbaijan
 - 4. Germany

Question ID : 264330161145
Option 1 ID : 264330631911
Option 2 ID : 264330631912
Option 3 ID : 264330631913
Option 4 ID : 264330631914
Status : Answered
Chosen Option : 3

Q.25 निम्नलिखित में से कौन-सा एक सफेद और पीले रंग का ठोस (white to yellowish solid) है जिसमें हल्की सुगंधित गंध होती है जिसे ऊर्ध्वपातन की प्रक्रिया द्वारा शुद्ध किया जाता है?

- Ans
- 1. डिस्प्रोसियम (Dysprosium)
 - 2. अर्थोवैन्डेट (Orthovanadate)
 - 3. ऐन्थ्रासीन (Anthracene)
 - 4. टाइटेनिल (Titanyl)

Question ID : 264330161056
Option 1 ID : 264330631556
Option 2 ID : 264330631558
Option 3 ID : 264330631555
Option 4 ID : 264330631557
Status : Not Answered
Chosen Option : --

Q.1 Select the most appropriate meaning of the underlined idiom.
The shopkeeper was sly as a fox and tried to sell off the old stock.

- Ans
- 1. slow
 - 2. in confusion or disagreement
 - 3. suspicious
 - 4. smart and clever

Question ID : 264330153643
Option 1 ID : 264330602044
Option 2 ID : 264330602045
Option 3 ID : 264330602046
Option 4 ID : 264330602043
Status : Answered
Chosen Option : 4

Q.2 The following sentence has been split into four segments. Identify the segment that contains a spelling error.

Several days later, / he received a written / comeunication from the magistrate / that the case has been dropped.

- Ans
- 1. comeunication from the magistrate
 - 2. that the case has been dropped
 - 3. he received a written
 - 4. Several days later,

Question ID : 264330152983
Option 1 ID : 264330599505
Option 2 ID : 264330599506
Option 3 ID : 264330599504
Option 4 ID : 264330599503
Status : Answered
Chosen Option : 1

Q.3 Select the most appropriate ANTONYM of the given word.
Humility

- Ans
- 1. Timidity
 - 2. Shyness
 - 3. Obedience
 - 4. Arrogance

Question ID : 264330152776
Option 1 ID : 264330598698
Option 2 ID : 264330598696
Option 3 ID : 264330598697
Option 4 ID : 264330598695
Status : Answered
Chosen Option : 4

Q.4 Select the most appropriate meaning of the underlined idiom.
After years of rivalry, the two families decided to bury the hatchet.

- Ans**
- 1. To end a quarrel and become friendly
 - 2. To end a quarrel by never talking to each other
 - 3. To start a new quarrel
 - 4. To continue an old quarrel

Question ID : 264330153411
Option 1 ID : 264330601182
Option 2 ID : 264330601180
Option 3 ID : 264330601179
Option 4 ID : 264330601181
Status : Answered
Chosen Option : 1

Q.5 Select the most appropriate meaning of the given idiom.
Day and night

- Ans**
- 1. Diligently
 - 2. Adversely
 - 3. Clumsily
 - 4. Continuously

Question ID : 264330151828
Option 1 ID : 264330594940
Option 2 ID : 264330594941
Option 3 ID : 264330594942
Option 4 ID : 264330594939
Status : Answered
Chosen Option : 2

Q.6 The following sentence has been split into four segments. Identify the segment that contains an error.
They had been dancing / for an hour / when our dance teacher / had arrived.

- Ans**
- 1. when our dance teacher
 - 2. for an hour
 - 3. They had been dancing
 - 4. had arrived

Question ID : 264330143055
Option 1 ID : 264330560497
Option 2 ID : 264330560496
Option 3 ID : 264330560495
Option 4 ID : 264330560498
Status : Answered
Chosen Option : 3

Q.7 Parts of the following sentence have been given as options. Select the option that contains an error.
They will start their journey after the breakfast.

- Ans
- 1. their journey
 - 2. They
 - 3. will start
 - 4. after the breakfast

Question ID : 264330152793
Option 1 ID : 264330598765
Option 2 ID : 264330598763
Option 3 ID : 264330598764
Option 4 ID : 264330598766
Status : Answered
Chosen Option : 3

Q.8 Select the most appropriate option to fill in the blank.
Bhanu, the security guard, asks everyone entering my building to show their _____ card.

- Ans
- 1. identity
 - 2. place
 - 3. name
 - 4. self

Question ID : 264330152582
Option 1 ID : 264330597932
Option 2 ID : 264330597933
Option 3 ID : 264330597931
Option 4 ID : 264330597934
Status : Answered
Chosen Option : 1

Q.9 Select the most appropriate option that can substitute the underlined segment in the given sentence.

No sooner did he finished his examination than he left for his cricket training centre.

- Ans
- 1. no sooner had he finish
 - 2. no sooner than he finished
 - 3. no sooner did he finish
 - 4. no sooner than he did finished

Question ID : 264330153505
Option 1 ID : 264330601531
Option 2 ID : 264330601533
Option 3 ID : 264330601534
Option 4 ID : 264330601532
Status : Answered
Chosen Option : 3

Q.10 Select the option that can be used as a one-word substitute for the underlined group of words.

He simply continued to say something in order to convey information in a calm voice.

- Ans
- 1. teach
 - 2. dictate
 - 3. speak
 - 4. spell

Question ID : 264330152706
Option 1 ID : 264330598426
Option 2 ID : 264330598424
Option 3 ID : 264330598423
Option 4 ID : 264330598425
Status : Answered
Chosen Option : 2

Q.11 Select the correctly spelt word.

- Ans
- 1. Previnsion
 - 2. Prevention
 - 3. Prevenseon
 - 4. Prevension

Question ID : 264330153086
Option 1 ID : 264330599908
Option 2 ID : 264330599910
Option 3 ID : 264330599909
Option 4 ID : 264330599907
Status : Answered
Chosen Option : 2

Q.12 Select the most appropriate ANTONYM of the given word.
Humane

- Ans
- 1. Cruel
 - 2. Kind
 - 3. Proud
 - 4. Imperfect

Question ID : 264330152741
Option 1 ID : 264330598564
Option 2 ID : 264330598563
Option 3 ID : 264330598565
Option 4 ID : 264330598566
Status : Answered
Chosen Option : 1

Q.13 The following sentence has been split into four segments. Identify the segment that contains a grammatical error.

Mohan is respected / by everyone / because he works / hardly.

Ans 1. hardly

2. because he works

3. Mohan is respected

4. by everyone

Question ID : 264330153181

Option 1 ID : 264330600286

Option 2 ID : 264330600285

Option 3 ID : 264330600283

Option 4 ID : 264330600284

Status : Answered

Chosen Option : 1

Q.14 Select the option that can be used as a one-word substitute for the given group of words.

A man whose wife is dead

Ans 1. Widow

2. Bachelor

3. Ascetic

4. Widower

Question ID : 264330152735

Option 1 ID : 264330598539

Option 2 ID : 264330598542

Option 3 ID : 264330598541

Option 4 ID : 264330598540

Status : Answered

Chosen Option : 4

Q.15 Select the most appropriate idiom to fill in the blank.

Jane, please don't tell me fairy tales; I just want to know the real matter _____.

Ans 1. in a fortnight

2. in a nutshell

3. in the cold

4. in the long run

Question ID : 264330153098

Option 1 ID : 264330599956

Option 2 ID : 264330599955

Option 3 ID : 264330599957

Option 4 ID : 264330599958

Status : Answered

Chosen Option : 2

Q.16 The following sentence has been split into four segments. Identify the segment that contains an error.

Did / her friend / went to / school yesterday?

- Ans
- 1. school yesterday
 - 2. Did
 - 3. her friend
 - 4. went to

Question ID : 264330155318

Option 1 ID : 264330608714

Option 2 ID : 264330608711

Option 3 ID : 264330608712

Option 4 ID : 264330608713

Status : Answered

Chosen Option : 3

Q.17 Parts of the given sentence have been underlined. One of them contains an error. The underlined parts are given as options with some changes. Select the option that correctly rectifies the error.

He is good at playing the guitar than his brother.

- Ans
- 1. to
 - 2. in playing
 - 3. guitar
 - 4. is better

Question ID : 264330153172

Option 1 ID : 264330600250

Option 2 ID : 264330600248

Option 3 ID : 264330600249

Option 4 ID : 264330600247

Status : Answered

Chosen Option : 4

Q.18 Select the INCORRECTLY spelt word.

- Ans
- 1. Wholeness
 - 2. Legandry
 - 3. Overwhelming
 - 4. Inclusive

Question ID : 264330152782

Option 1 ID : 264330598722

Option 2 ID : 264330598721

Option 3 ID : 264330598719

Option 4 ID : 264330598720

Status : Answered

Chosen Option : 2

Q.19 Select the most appropriate ANTONYM of the word given in brackets to fill in the blank.

The company is looking for some _____ (idle) workers who can join the organisation immediately.

- Ans
- 1. sober
 - 2. coy
 - 3. callous
 - 4. diligent

Question ID : 264330152694

Option 1 ID : 264330598382

Option 2 ID : 264330598380

Option 3 ID : 264330598379

Option 4 ID : 264330598381

Status : Answered

Chosen Option : 4

Q.20 Select the most appropriate option that can substitute the underlined segment in the given sentence.

The Delhi administration is seriously worried about the warning to civic health posed by the polluted waters of Yamuna.

- Ans
- 1. the notice to civic health
 - 2. a peril to civic health
 - 3. the plague to civic health
 - 4. the threat to civic health

Question ID : 264330151810

Option 1 ID : 264330594870

Option 2 ID : 264330594868

Option 3 ID : 264330594869

Option 4 ID : 264330594867

Status : Answered

Chosen Option : 4

Comprehension:

In the following passage, some words have been deleted. Read the passage carefully and select the most appropriate option to fill in each blank.

Effective communication is about more than just exchanging information. It's about understanding the emotion and intentions (1)_____ the information. As well as being able to clearly convey a message, you need to also (2)_____ in a way that gains the full meaning of what's being said and makes the other person feel heard and understood. For many of us, communicating more clearly and effectively requires learning some (3)_____ skills. Whether you're trying to improve communication with your spouse, kids, boss, or coworkers, learning these skills can (4)_____ your connections to others, build greater trust and respect, and (5)_____ teamwork, problem solving, and your overall social and emotional health.

SubQuestion No : 21

Q.21 Select the most appropriate option to fill in blank number 1.

- Ans
- 1. in front of
 - 2. above
 - 3. below
 - 4. behind

Question ID : 264330153016

Option 1 ID : 264330599634

Option 2 ID : 264330599631

Option 3 ID : 264330599633

Option 4 ID : 264330599632

Status : Answered

Chosen Option : 4

Comprehension:

In the following passage, some words have been deleted. Read the passage carefully and select the most appropriate option to fill in each blank.

Effective communication is about more than just exchanging information. It's about understanding the emotion and intentions (1)_____ the information. As well as being able to clearly convey a message, you need to also (2)_____ in a way that gains the full meaning of what's being said and makes the other person feel heard and understood. For many of us, communicating more clearly and effectively requires learning some (3)_____ skills. Whether you're trying to improve communication with your spouse, kids, boss, or coworkers, learning these skills can (4)_____ your connections to others, build greater trust and respect, and (5)_____ teamwork, problem solving, and your overall social and emotional health.

SubQuestion No : 22

Q.22 Select the most appropriate option to fill in blank number 2.

- Ans
- 1. think
 - 2. talk
 - 3. speak
 - 4. listen

Question ID : 264330153017

Option 1 ID : 264330599638

Option 2 ID : 264330599637

Option 3 ID : 264330599636

Option 4 ID : 264330599635

Status : Answered

Chosen Option : 4

Comprehension:

In the following passage, some words have been deleted. Read the passage carefully and select the most appropriate option to fill in each blank.

Effective communication is about more than just exchanging information. It's about understanding the emotion and intentions (1)_____ the information. As well as being able to clearly convey a message, you need to also (2)_____ in a way that gains the full meaning of what's being said and makes the other person feel heard and understood. For many of us, communicating more clearly and effectively requires learning some (3)_____ skills. Whether you're trying to improve communication with your spouse, kids, boss, or coworkers, learning these skills can (4)_____ your connections to others, build greater trust and respect, and (5)_____ teamwork, problem solving, and your overall social and emotional health.

SubQuestion No : 23

Q.23 Select the most appropriate option to fill in blank number 3.

- Ans
- 1. boring
 - 2. wasteful
 - 3. trivial
 - 4. important

Question ID : 264330153018

Option 1 ID : 264330599639

Option 2 ID : 264330599641

Option 3 ID : 264330599642

Option 4 ID : 264330599640

Status : Answered

Chosen Option : 4

Comprehension:

In the following passage, some words have been deleted. Read the passage carefully and select the most appropriate option to fill in each blank.

Effective communication is about more than just exchanging information. It's about understanding the emotion and intentions (1)_____ the information. As well as being able to clearly convey a message, you need to also (2)_____ in a way that gains the full meaning of what's being said and makes the other person feel heard and understood. For many of us, communicating more clearly and effectively requires learning some (3)_____ skills. Whether you're trying to improve communication with your spouse, kids, boss, or coworkers, learning these skills can (4)_____ your connections to others, build greater trust and respect, and (5)_____ teamwork, problem solving, and your overall social and emotional health.

SubQuestion No : 24

Q.24 Select the most appropriate option to fill in blank number 4.

- Ans
- 1. hamper
 - 2. trivialise
 - 3. disturb
 - 4. deepen

Question ID : 264330153019

Option 1 ID : 264330599645

Option 2 ID : 264330599643

Option 3 ID : 264330599644

Option 4 ID : 264330599646

Status : Answered

Chosen Option : 4

Comprehension:

In the following passage, some words have been deleted. Read the passage carefully and select the most appropriate option to fill in each blank.

Effective communication is about more than just exchanging information. It's about understanding the emotion and intentions (1)_____ the information. As well as being able to clearly convey a message, you need to also (2)_____ in a way that gains the full meaning of what's being said and makes the other person feel heard and understood. For many of us, communicating more clearly and effectively requires learning some (3)_____ skills. Whether you're trying to improve communication with your spouse, kids, boss, or coworkers, learning these skills can (4)_____ your connections to others, build greater trust and respect, and (5)_____ teamwork, problem solving, and your overall social and emotional health.

SubQuestion No : 25

Q.25 Select the most appropriate option to fill in blank number 5.

- Ans
- 1. hasten
 - 2. improve
 - 3. hamper
 - 4. disturb

Question ID : 264330153020

Option 1 ID : 264330599649

Option 2 ID : 264330599647

Option 3 ID : 264330599648

Option 4 ID : 264330599650

Status : Answered

Chosen Option : 2

Multi Tasking Non Technical Staff and Havaladar CBIC and CBN Examination 2023

Roll Number	KD Job Updates
Candidate Name	KD Job Updates
Venue Name	Sanaka Educational Trust Group of Institutions
Exam Date	05/09/2023
Exam Time	4:00 PM - 6:00 PM
Subject	MTS Non Tech Havaladar CBIC and CBN Examination 2023

Section : Numerical and Mathematical Ability

Q.1 66,000 रुपए को आशा, भूपिंदर और गार्गी के बीच इस प्रकार बांटा जाना है कि उनके हिस्सों का अनुपात निम्न अनुसार हो - आशा: भूपिंदर = 9: 5 और भूपिंदर: गार्गी = 2: 1, आशा को कितने रुपए मिलने चाहिए?

- Ans** 1. ₹36,000
 2. ₹38,000
 3. ₹34,000
 4. ₹32,000

Question ID : 264330154124

Option 1 ID : 264330603961

Option 2 ID : 264330603962

Option 3 ID : 264330603960

Option 4 ID : 264330603959

Status : Answered

Chosen Option : 1

Q.2 एक एथलीट 10 मिनट में 3000 m की दूरी पार करता है। उसकी चाल (km/h में) क्या है?

- Ans** 1. 14
 2. 16
 3. 12
 4. 18

Question ID : 264330156231

Option 1 ID : 264330612324

Option 2 ID : 264330612325

Option 3 ID : 264330612323

Option 4 ID : 264330612326

Status : Answered

Chosen Option : 4

Q.3 ₹18,000 की धनराशि अर्धवार्षिक रूप से संयोजित 20% की वार्षिक दर से कितने वर्षों में ₹23,958 हो जाएगी?

- Ans
- 1. $1\frac{1}{4}$
 - 2. $2\frac{1}{2}$
 - 3. $3\frac{1}{2}$
 - 4. $1\frac{1}{2}$

Question ID : 264330154089

Option 1 ID : 264330603822

Option 2 ID : 264330603819

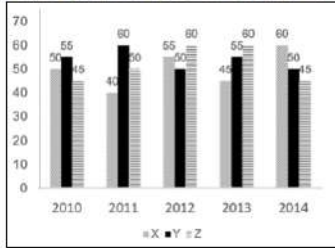
Option 3 ID : 264330603821

Option 4 ID : 264330603820

Status : Answered

Chosen Option : 4

Q.4 निम्न आलेख में कुछ वर्षों में तीन अलग-अलग कंपनियों X, Y और Z द्वारा टायरों के उत्पादन (लाखों में) को दर्शाया गया है।
निर्देश: निम्नलिखित आलेख का ध्यानपूर्वक अध्ययन कीजिए और नीचे दिए गए प्रश्न का उत्तर दीजिए।



2011 से 2012 तक कंपनी X के उत्पादन में कितने प्रतिशत की वृद्धि हुई है?

- Ans
- 1. 37.5%
 - 2. 35%
 - 3. 32.5%
 - 4. 38.25%

Question ID : 264330153889

Option 1 ID : 264330603021

Option 2 ID : 264330603020

Option 3 ID : 264330603022

Option 4 ID : 264330603019

Status : Answered

Chosen Option : 1

Q.5 तीन संख्याएँ 3 : 5 : 7 के अनुपात में हैं। यदि उनका लघुतम समापवर्त्य 2625 है, तो उनका महत्तम समापवर्तक ज्ञात कीजिए।

- Ans
- 1. 100
 - 2. 50
 - 3. 125
 - 4. 25

Question ID : 264330155986

Option 1 ID : 264330611345

Option 2 ID : 264330611343

Option 3 ID : 264330611346

Option 4 ID : 264330611344

Status : Answered

Chosen Option : 4

Q.6 रश्मि और टीना किसी काम को क्रमशः 20 दिन और 30 दिन में पूरा कर सकती हैं। यदि वे बारी-बारी से एक दिन छोड़कर काम करती हैं और रश्मि पहले दिन काम शुरू करती है, तो काम कितने दिनों में पूरा हो जाएगा?

- Ans** ✓ 1. 24
✗ 2. 26
✗ 3. 12
✗ 4. 28

Question ID : 264330156119
Option 1 ID : 264330611876
Option 2 ID : 264330611877
Option 3 ID : 264330611875
Option 4 ID : 264330611878
Status : Answered
Chosen Option : 1

Q.7 एक ठेकेदार भुगतान की राशि में परिवर्तन किए बिना अपने श्रमिकों के लिए एक सप्ताह (सोमवार से शनिवार) के कार्य के समय को 48 घंटे से घटाकर 36 घंटे कर देता है। प्रति घंटा भुगतान की राशि में प्रतिशत वृद्धि क्या है?

- Ans** ✗ 1. $30\frac{1}{3}\%$
✓ 2. $33\frac{1}{3}\%$
✗ 3. $67\frac{2}{3}\%$
✗ 4. $70\frac{2}{3}\%$

Question ID : 264330156473
Option 1 ID : 264330613281
Option 2 ID : 264330613279
Option 3 ID : 264330613280
Option 4 ID : 264330613282
Status : Answered
Chosen Option : 2

Q.8 दो संख्याओं का औसत 48 है। यदि छोटी संख्या में 3 जोड़ दिया जाए, तो उनके बीच का अनुपात 11 : 20 हो जाता है। बड़ी संख्या ज्ञात कीजिए। (दशमलव के दो स्थानों तक सन्निकटित)।

- Ans** ✓ 1. 63.87
✗ 2. 3.87
✗ 3. 70.87
✗ 4. 40.87

Question ID : 264330156343
Option 1 ID : 264330612772
Option 2 ID : 264330612773
Option 3 ID : 264330612774
Option 4 ID : 264330612771
Status : Answered
Chosen Option : 1

Q.9 ज़ोनत एक निवेश पर 20% लाभ अर्जित करती है, लेकिन दूसरे निवेश पर उसे 10% की हानि होती है। यदि दोनों निवेश क्रमशः 3 : 5 के अनुपात में हैं, तो दोनों निवेशों को मिलाकर ज़ोनत का लाभ या हानि प्रतिशत कितना है?

- Ans
- 1. 1.25% हानि
 - 2. 2.25% लाभ
 - 3. 2.25% हानि
 - 4. 1.25% लाभ

Question ID : 264330155705
Option 1 ID : 264330610223
Option 2 ID : 264330610226
Option 3 ID : 264330610225
Option 4 ID : 264330610224
Status : Answered
Chosen Option : 4

Q.10 28, 21, 39, 33, 36, 23 का समांतर माध्य ज्ञात कीजिए।

- Ans
- 1. 32
 - 2. 26
 - 3. 30
 - 4. 28

Question ID : 264330155953
Option 1 ID : 264330611213
Option 2 ID : 264330611214
Option 3 ID : 264330611211
Option 4 ID : 264330611212
Status : Answered
Chosen Option : 3

Q.11 लोगों के एक समूह में, 70% पुरुष हैं और 30% महिलाएं हैं। पुरुषों की औसत आयु 50 वर्ष और महिलाओं की औसत आयु 40 वर्ष है। समूह के सभी सदस्यों की औसत आयु (वर्षों में) ज्ञात कीजिए।

- Ans
- 1. 48
 - 2. 46
 - 3. 47
 - 4. 45

Question ID : 264330153835
Option 1 ID : 264330602804
Option 2 ID : 264330602803
Option 3 ID : 264330602805
Option 4 ID : 264330602806
Status : Answered
Chosen Option : 3

Q.12 एक समबाहु त्रिभुज की माधिका की लंबाई $6\sqrt{3}$ cm है। इस त्रिभुज का क्षेत्रफल क्या है?

- Ans
- 1. 72 cm^2
 - 2. 36 cm^2
 - 3. $72\sqrt{3} \text{ cm}^2$
 - 4. $36\sqrt{3} \text{ cm}^2$

Question ID : 264330156500

Option 1 ID : 264330613390

Option 2 ID : 264330613388

Option 3 ID : 264330613387

Option 4 ID : 264330613389

Status : Answered

Chosen Option : 4

Q.13 एक धनराशि वार्षिक साधारण ब्याज की दर पर 16 वर्षों में सात गुना हो जाती है। वार्षिक ब्याज की दर ज्ञात कीजिए।

- Ans
- 1. 39.2%
 - 2. 25.8%
 - 3. 37.5%
 - 4. 20.3%

Question ID : 264330155746

Option 1 ID : 264330610390

Option 2 ID : 264330610388

Option 3 ID : 264330610389

Option 4 ID : 264330610387

Status : Answered

Chosen Option : 3

Q.14 सरल कीजिए। $\frac{\frac{1}{3} \div \frac{1}{3} \times \frac{1}{3}}{\frac{1}{3} + \frac{1}{3} - \frac{1}{3}} = ?$

- Ans
- 1. 1
 - 2. $\frac{1}{3}$
 - 3. 3
 - 4. $\frac{1}{9}$

Question ID : 264330154040

Option 1 ID : 264330603624

Option 2 ID : 264330603623

Option 3 ID : 264330603625

Option 4 ID : 264330603626

Status : Answered

Chosen Option : 1

Q.15 एक तैराक 4 घंटे में बिंदु A से बिंदु B तक धारा के अनुकूल तैरता है। वह धारा के प्रतिकूल उतनी ही दूरी 5 घंटे में तय करता है। यदि धारा की चाल 2 km/h है, तो A और B के बीच की दूरी कितनी है?

- Ans**
- 1. 60 km
 - 2. 72 km
 - 3. 80 km
 - 4. 100 km

Question ID : 264330154058

Option 1 ID : 264330603695

Option 2 ID : 264330603698

Option 3 ID : 264330603697

Option 4 ID : 264330603696

Status : Answered

Chosen Option : 3

Q.16 नीचे दी गई तालिका में एक परीक्षा में छात्रों A, B और C द्वारा फ्रेंच और भूगोल में प्राप्त किए गए अंकों को दर्शाया गया है। प्रत्येक विषय के लिए अधिकतम अंक 100 हैं। तालिका का ध्यानपूर्वक अध्ययन कीजिए और निम्नलिखित प्रश्न का उत्तर दीजिए।

छात्र	फ्रेंच	भूगोल
A	98	100
B	89	98
C	92	99

तीनों छात्रों के भूगोल में औसत अंकों और फ्रेंच में औसत अंकों का अनुपात कितना है?

- Ans**
- 1. 32 : 28
 - 2. 28 : 32
 - 3. 33 : 31
 - 4. 31 : 33

Question ID : 264330156497

Option 1 ID : 264330613375

Option 2 ID : 264330613376

Option 3 ID : 264330613377

Option 4 ID : 264330613378

Status : Answered

Chosen Option : 3

Q.17 एक रेलगाड़ी अपनी यात्रा के पहले दो घंटों में 72 km/h की चाल से और अगले 1.5 घंटों में 120 km की चाल से एक निश्चित दूरी तय करती है। पूरी यात्रा के लिए इसकी औसत चाल (km/h में, निकटतम पूर्णांक तक सन्निकटित) क्या है?

- Ans**
- 1. 79
 - 2. 78
 - 3. 75
 - 4. 73

Question ID : 264330156471

Option 1 ID : 264330613271

Option 2 ID : 264330613272

Option 3 ID : 264330613274

Option 4 ID : 264330613273

Status : Answered

Chosen Option : 3

Q.18 एक लम्बवृत्तीय बेलन के आधार का व्यास 36 cm है और इसकी ऊंचाई 21 cm है। बेलन का आयतन ज्ञात कीजिए। ($\pi = \frac{22}{7}$ का प्रयोग कीजिए)

- Ans
- 1. 5346 cm³
 - 2. 2376 cm³
 - 3. 85536 cm³
 - 4. 21384 cm³

Question ID : 264330156437
Option 1 ID : 264330613140
Option 2 ID : 264330613141
Option 3 ID : 264330613139
Option 4 ID : 264330613142
Status : Answered
Chosen Option : 4

Q.19 8 वस्तुओं को बेचने पर एक दुकानदार को 2 वस्तुओं के विक्रय मूल्य के बराबर का लाभ होता है। दुकानदार का लाभ प्रतिशत कितना है?

- Ans
- 1. $16\frac{2}{3}\%$
 - 2. $33\frac{1}{3}\%$
 - 3. 25%
 - 4. 30%

Question ID : 264330161981
Option 1 ID : 264330635253
Option 2 ID : 264330635252
Option 3 ID : 264330635254
Option 4 ID : 264330635251
Status : Answered
Chosen Option : 2

Q.20 एक आदमी और एक लड़का एक काम को 12 दिनों में कर सकते हैं। यदि आदमी अकेले अंतिम 3 दिन काम करता है, तो यह 13 दिनों में पूरा होता है। लड़का इसे अकेले करने में कितना समय लेगा?

- Ans
- 1. 36 दिन
 - 2. 72 दिन
 - 3. 18 दिन
 - 4. 30 दिन

Question ID : 264330156194
Option 1 ID : 264330612176
Option 2 ID : 264330612175
Option 3 ID : 264330612178
Option 4 ID : 264330612177
Status : Not Answered
Chosen Option : --

Q.1 एक निश्चित कूट भाषा में, 'CHEW' को '39' लिखा जाता है और 'FORE' को '44' लिखा जाता है। उस कूट भाषा में 'GLIT' को कैसे लिखा जाएगा?

- Ans**
- 1. 52
 - 2. 48
 - 3. 51
 - 4. 50

Question ID : 264330155834
Option 1 ID : 264330610742
Option 2 ID : 264330610740
Option 3 ID : 264330610741
Option 4 ID : 264330610739
Status : Answered
Chosen Option : 2

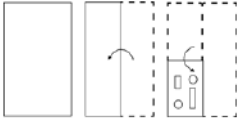
Q.2 छः व्यक्ति C, D, E, F, G और H एक सीधी पंक्ति में उत्तर की ओर मुख करके बैठे हैं। केवल तीन व्यक्ति G के दाईं ओर बैठे हैं। केवल दो व्यक्ति G और E के बीच में बैठे हैं। C, F के ठीक दाईं ओर और G के ठीक बाईं ओर बैठा है। H, E का निकटतम पड़ोसी नहीं है। G और E के बीच में कौन-कौन बैठा है?

- Ans**
- 1. H और E
 - 2. F और C
 - 3. C और D
 - 4. H और D

Question ID : 264330155544
Option 1 ID : 264330609581
Option 2 ID : 264330609579
Option 3 ID : 264330609582
Option 4 ID : 264330609580
Status : Answered
Chosen Option : 4

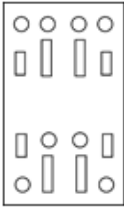
KD Job Updates

Q.3 निम्नलिखित आकृतियों में एक कागज़ के टुकड़े को मोड़ने के क्रम और मुड़े हुए कागज़ को काटने के तरीके को दर्शाया गया है। खोलने पर यह कागज़ कैसा दिखाई देगा?

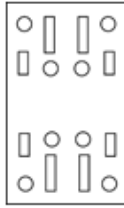


Ans

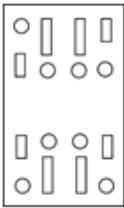
✗ 1.



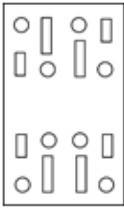
✓ 2.



✗ 3.



✗ 4.



Question ID : 264330155608

Option 1 ID : 264330609835

Option 2 ID : 264330609837

Option 3 ID : 264330609836

Option 4 ID : 264330609838

Status : Answered

Chosen Option : 2

Q.4 यदि '+' और '-' को आपस में बदल दिया जाए तथा 'x' और '÷' को आपस में बदल दिया जाए तो निम्नलिखित समीकरण में (?) के स्थान पर क्या आएगा?

$$93 \div 5 + 4 - 45 \times 5 = ?$$

Ans ✗ 1. 495

✓ 2. 470

✗ 3. 490

✗ 4. 480

Question ID : 264330154613

Option 1 ID : 264330605918

Option 2 ID : 264330605915

Option 3 ID : 264330605917

Option 4 ID : 264330605916

Status : Answered

Chosen Option : 2

Q.5 उस शब्द-युग्म का चयन कीजिए जो नीचे दिए गए शब्दों के युग्म में व्यक्त किए गए समान संबंध का सबसे अच्छा निरूपण करता है।

(शब्दों को अर्थपूर्ण हिंदी शब्दों के रूप में माना जाना चाहिए और उन्हें शब्द में अक्षरों की संख्या/व्यंजन/स्वरों की संख्या के आधार पर एक दूसरे से संबंधित नहीं किया जाना चाहिए।)

हकलाना : बातचीत

Ans

- ✓ 1. दृष्टिवैषम्य : दृष्टि
- ✗ 2. नोवोकेन : स्पर्श
- ✗ 3. शोर मचाना : सुनना
- ✗ 4. सुगंध : महक

Question ID : 264330154634

Option 1 ID : 264330606001

Option 2 ID : 264330606002

Option 3 ID : 264330605999

Option 4 ID : 264330606000

Status : Answered

Chosen Option : 1

Q.6 दी गई श्रृंखला में प्रश्न चिन्ह '?' के स्थान पर क्या आना चाहिए?

22 24 28 36 52 ?

Ans

- ✗ 1. 72
- ✗ 2. 88
- ✓ 3. 84
- ✗ 4. 90

Question ID : 264330151453

Option 1 ID : 264330593439

Option 2 ID : 264330593441

Option 3 ID : 264330593440

Option 4 ID : 264330593442

Status : Answered

Chosen Option : 3

Q.7 नीचे दिए गए कथनों और निष्कर्षों को ध्यानपूर्वक पढ़िए। आपको मानना है कि दिए गए कथन सत्य हैं चाहे वे समान्यतः ज्ञात तथ्यों से अलग प्रतीत होते हों। आपको निश्चय करना है कि कौन-सा/कौन-से निष्कर्ष तार्किक रूप से दिए गए कथनों के अनुसार है/हैं।

कथन: कुछ सोफे, चायदानी हैं। सभी चायदानी, प्रिटर हैं। कुछ प्रिटर, फूलदान हैं।

निष्कर्ष I: कुछ चायदानी, सोफे हैं।

निष्कर्ष II: कुछ फूलदान, प्रिटर हैं।

- Ans**
- 1. न तो निष्कर्ष (I) और न ही (II) कथनों के अनुसार है।
 - 2. केवल निष्कर्ष (II) कथनों के अनुसार है।
 - 3. दोनों निष्कर्ष (I) और (II) कथनों के अनुसार हैं।
 - 4. केवल निष्कर्ष (I) कथनों के अनुसार है।

Question ID : 264330155903

Option 1 ID : 264330611017

Option 2 ID : 264330611016

Option 3 ID : 264330611018

Option 4 ID : 264330611015

Status : Answered

Chosen Option : 3

Q.8 अक्षरों के उस संयोजन को चुनिए जिसे दी गई श्रृंखला के रिक्त स्थानों में क्रमिक रूप से रखने पर श्रृंखला पूरी हो जाएगी।

_ GGHG __ GG _ G _

- Ans**
- 1. HGHHG
 - 2. HHHGH
 - 3. GHHGH
 - 4. HGGHH

Question ID : 264330151640

Option 1 ID : 264330594189

Option 2 ID : 264330594188

Option 3 ID : 264330594190

Option 4 ID : 264330594187

Status : Answered

Chosen Option : 1

Q.9 निम्नलिखित संख्या-युग्मों में, पहली संख्या पर कुछ गणितीय संक्रियाएँ करके दूसरी संख्या प्राप्त की जाती है। उस समुच्चय को चुनिए जिसमें संख्याएँ ठीक उसी प्रकार संबंधित हैं जिस प्रकार निम्नलिखित समुच्चयों की संख्याएँ संबंधित हैं।

(ध्यान दें: संख्याओं को उनके घटक अंकों में अलग-अलग किए बिना, पूर्ण संख्याओं पर संक्रियाएँ की जानी चाहिए। उदा. 13 – संख्या 13 पर संक्रियाएँ जैसे 13 को जोड़ना/घटाना/गुणा करना आदि किया जा सकता है। 13 को 1 और 3 में अलग-अलग करने की ओर फिर 1 और 3 पर गणितीय संक्रियाएँ करने की अनुमति नहीं है।)

11, 110

19, 190

- Ans**
- 1. 22, 440
 - 2. 91, 190
 - 3. 51, 150
 - 4. 31, 310

Question ID : 264330151618

Option 1 ID : 264330594101

Option 2 ID : 264330594102

Option 3 ID : 264330594100

Option 4 ID : 264330594099

Status : Answered

Chosen Option : 4

Q.10 दी गई श्रृंखला में प्रश्न चिन्ह '?' के स्थान पर क्या आना चाहिए?

5 8 17 44 125 ?

- Ans**
- 1. 312
 - 2. 283
 - 3. 391
 - 4. 368

Question ID : 264330151485

Option 1 ID : 264330593567

Option 2 ID : 264330593569

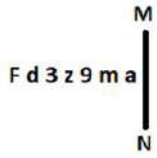
Option 3 ID : 264330593570

Option 4 ID : 264330593568

Status : Answered

Chosen Option : 4

Q.11 दी गई आकृति के उस सही दर्पण प्रतिबिंब को चुनिए, जो नीचे दर्शाए गए अनुसार दर्पण को MN पर रखने पर बनेगा।



- Ans
- ✓ 1. s m e z E b 7
 - ✗ 2. s m e z E d 7
 - ✗ 3. m a e z 3 b 7
 - ✗ 4. s w e z 3 b 7

Question ID : 264330151516

Option 1 ID : 264330593691

Option 2 ID : 264330593692

Option 3 ID : 264330593694

Option 4 ID : 264330593693

Status : Answered

Chosen Option : 1

Q.12 यदि '+' और '-' को आपस में बदल दिया जाए तथा '×' और '÷' को आपस में बदल दिया जाए तो निम्नलिखित समीकरण में (?) के स्थान पर क्या आएगा?

$$92 + 18 \div 2 - 125 \times 25 = ?$$

- Ans
- ✗ 1. 51
 - ✗ 2. 41
 - ✓ 3. 61
 - ✗ 4. 71

Question ID : 264330155671

Option 1 ID : 264330610088

Option 2 ID : 264330610089

Option 3 ID : 264330610087

Option 4 ID : 264330610090

Status : Answered

Chosen Option : 3

Q.13 एक निश्चित तर्क के अनुसार 21, 147 से संबंधित है। समान तर्क के अनुसार, 32, 224 से संबंधित है। समान तर्क का अनुसरण करते हुए 52 निम्नलिखित में से किससे संबंधित है?

- Ans
- ✗ 1. 356
 - ✗ 2. 365
 - ✓ 3. 364
 - ✗ 4. 346

Question ID : 264330151590

Option 1 ID : 264330593990

Option 2 ID : 264330593988

Option 3 ID : 264330593987

Option 4 ID : 264330593989

Status : Answered

Chosen Option : 3

Q.14 नीचे दिए गए कथनों और निष्कर्षों को ध्यानपूर्वक पढ़िए। आपको मानना है कि दिए गए कथन सत्य हैं चाहे वे समान्यतः ज्ञात तथ्यों से अलग प्रतीत होते हों। आपको निश्चय करना है कि कौन-सा/कौन-से निष्कर्ष तार्किक रूप से दिए गए कथनों के अनुसार हैं।

कथन: सभी मिक्सियां, माइक्रोवेव हैं। कुछ माइक्रोवेव, टोस्टर हैं। सभी टोस्टर, चिमनियां हैं।

निष्कर्ष I: कुछ मिक्सियां, माइक्रोवेव हैं।

निष्कर्ष II: सभी टोस्टर, मिक्सियां हैं।

- Ans**
- 1. न तो निष्कर्ष (I) और न ही (II) कथनों के अनुसार है।
 - 2. केवल निष्कर्ष (II) कथनों के अनुसार है।
 - 3. केवल निष्कर्ष (I) कथनों के अनुसार है।
 - 4. दोनों निष्कर्ष (I) और (II) कथनों के अनुसार हैं।

Question ID : 264330155911

Option 1 ID : 264330611049

Option 2 ID : 264330611048

Option 3 ID : 264330611047

Option 4 ID : 264330611050

Status : Answered

Chosen Option : 3

Q.15 एक निश्चित कूट भाषा में, 'OPEN' को '4582' लिखा जाता है और 'PORE' को '2385' लिखा जाता है। उसी कूट भाषा में 'R' को कैसे लिखा जाएगा?

- Ans**
- 1. 3
 - 2. 2
 - 3. 8
 - 4. 5

Question ID : 264330151700

Option 1 ID : 264330594429

Option 2 ID : 264330594428

Option 3 ID : 264330594430

Option 4 ID : 264330594427

Status : Answered

Chosen Option : 1

Q.16 उस सही विकल्प को चुनिए, जिसे दी गई श्रृंखला के रिक्त स्थानों में इसी क्रम में रखने पर श्रृंखला तार्किक रूप से पूरी हो जाएगी।

IV _ J _ VEJ T _ GJ XVH _ BV _ J

- Ans**
- 1. EPVJI
 - 2. EJBLR
 - 3. DVJLE
 - 4. DBRPE

Question ID : 264330154725

Option 1 ID : 264330606363

Option 2 ID : 264330606364

Option 3 ID : 264330606365

Option 4 ID : 264330606366

Status : Answered

Chosen Option : 1

Q.17 दी गई श्रृंखला में प्रश्न चिन्ह '?' के स्थान पर क्या आना चाहिए?

6 25 82 253 766 ?

- Ans
- ✗ 1. 2485
 - ✗ 2. 2569
 - ✓ 3. 2305
 - ✗ 4. 2491

Question ID : 264330151473

Option 1 ID : 264330593520

Option 2 ID : 264330593522

Option 3 ID : 264330593519

Option 4 ID : 264330593521

Status : Answered

Chosen Option : 3

Q.18 यदि निम्नलिखित आकृति श्रृंखला को जारी रखना हो तो कौन-सी आकृति प्रश्न चिन्ह (?) के स्थान पर आनी चाहिए?

C	P	A	X	↑	P	P	A	X	C	□	A	
	□			C			↑			P		?
X		↑	□		A	C		□	↑		X	

Ans

✗ 1.

A	X	P
		C
□		↑

✓ 2.

A	X	C
		□
P		↑

✗ 3.

A	P	X
		□
C		↑

✗ 4.

A	P	C
		□
X		↑

Question ID : 264330154753

Option 1 ID : 264330606478

Option 2 ID : 264330606476

Option 3 ID : 264330606477

Option 4 ID : 264330606475

Status : Answered

Chosen Option : 1

Q.19 यदि शब्द 'TIMES' के प्रत्येक अक्षर को अंग्रेजी वर्णमाला के क्रम में व्यवस्थित किया जाए तो कितने अक्षरों का स्थान अपरिवर्तित रहेगा?

- Ans
- 1. किसी का भी नहीं
 - 2. दो
 - 3. चार
 - 4. एक

Question ID : 264330154325
Option 1 ID : 264330604763
Option 2 ID : 264330604764
Option 3 ID : 264330604765
Option 4 ID : 264330604766
Status : Answered
Chosen Option : 2

Q.20 अंग्रेजी वर्णमाला क्रम के आधार पर दी गई श्रृंखला में प्रश्न चिह्न '?' के स्थान पर कौन-सा अक्षर-समूह आना चाहिए?

FQA, HTE, JWI, LZM, ?

- Ans
- 1. NCQ
 - 2. ODR
 - 3. OEP
 - 4. MDP

Question ID : 264330156296
Option 1 ID : 264330612586
Option 2 ID : 264330612584
Option 3 ID : 264330612585
Option 4 ID : 264330612583
Status : Answered
Chosen Option : 1

Section : General Awareness

Q.1 निम्नलिखित में से कौन-सा राज्य का एक नीति निर्देशक सिद्धांत नहीं है?

- Ans
- 1. न्यायपालिका को कार्यपालिका से अलग करना
 - 2. समान नागरिक संहिता
 - 3. स्मारकों का संरक्षण
 - 4. भारत के किसी भी हिस्से में निवास

Question ID : 264330159907
Option 1 ID : 264330626978
Option 2 ID : 264330626975
Option 3 ID : 264330626976
Option 4 ID : 264330626977
Status : Answered
Chosen Option : 3

Q.2 सांची स्तूप किस राज्य में स्थित है?

- Ans
- 1. गुजरात
 - 2. उत्तरप्रदेश
 - 3. मध्यप्रदेश
 - 4. बिहार

Question ID : 264330160759
Option 1 ID : 264330630367
Option 2 ID : 264330630369
Option 3 ID : 264330630368
Option 4 ID : 264330630370
Status : Answered
Chosen Option : 3

Q.3 दक्षिण चीन सागर निम्नलिखित में से किस महासागर का हिस्सा है?

- Ans
- 1. आर्कटिक महासागर
 - 2. दक्षिणी महासागर
 - 3. हिंद महासागर
 - 4. प्रशांत महासागर

Question ID : 264330157835
Option 1 ID : 264330618700
Option 2 ID : 264330618701
Option 3 ID : 264330618699
Option 4 ID : 264330618702
Status : Answered
Chosen Option : 3

Q.4 निम्नलिखित में से किस राज्य में खेलो इंडिया यूनिवर्सिटी गेम्स का तीसरा संस्करण आयोजित किया गया था?

- Ans
- 1. नई दिल्ली
 - 2. उत्तरप्रदेश
 - 3. झारखंड
 - 4. पंजाब

Question ID : 264330161146
Option 1 ID : 264330631917
Option 2 ID : 264330631918
Option 3 ID : 264330631916
Option 4 ID : 264330631915
Status : Answered
Chosen Option : 1

Q.5 राष्ट्रीय आय लेखांकन में अंतिम और मध्यवर्ती वस्तुओं/सेवाओं के बीच अंतर करना क्यों महत्वपूर्ण है?

- Ans
- 1. विभिन्न क्षेत्रों के बीच आय के वितरण में अंतर्दृष्टि प्रदान करता है।
 - 2. यह उपभोक्ता की प्राथमिकताओं और बाजार की मांग में बदलाव को ट्रैक करने में मदद करता है।
 - 3. यह आर्थिक विकास और उत्पादकता की अधिक सटीक माप करने में सहायता करता है।
 - 4. यह उत्पादित वस्तुओं और सेवाओं की समग्र गुणवत्ता निर्धारित करने में मदद करता है।

Question ID : 264330157314

Option 1 ID : 264330616621

Option 2 ID : 264330616622

Option 3 ID : 264330616620

Option 4 ID : 264330616619

Status : Answered

Chosen Option : 3

Q.6 भारत के किस राज्य में स्थानांतरी खेती को बरीगां (Bringa) के नाम से जाना जाता है ?

- Ans
- 1. ओडिशा
 - 2. मणिपुर
 - 3. आंध्र प्रदेश
 - 4. मध्यप्रदेश

Question ID : 264330160137

Option 1 ID : 264330627887

Option 2 ID : 264330627889

Option 3 ID : 264330627890

Option 4 ID : 264330627888

Status : Not Answered

Chosen Option : --

Q.7 भारत का नाममात्र कार्यकारी प्राधिकारी (nominal executive authority) कौन है?

- Ans
- 1. राष्ट्रपति
 - 2. प्रधानमंत्री
 - 3. उपराष्ट्रपति
 - 4. महान्यायवादी

Question ID : 264330159910

Option 1 ID : 264330626988

Option 2 ID : 264330626987

Option 3 ID : 264330626990

Option 4 ID : 264330626989

Status : Answered

Chosen Option : 1

Q.8 भारत में महोगनी (Mahogany), रोज़वुड (Rosewood) और सिनकोना (Cinchona) के पेड़ किस प्रकार के वनों में पाए जाते हैं?

- Ans
- 1. उष्ण कटिबंधीय सदाबहार वन
 - 2. मैंग्रोव वन
 - 3. पर्वतीय वन
 - 4. उष्ण कटिबंधीय पर्णपाती वन

Question ID : 264330160149

Option 1 ID : 264330627937

Option 2 ID : 264330627936

Option 3 ID : 264330627938

Option 4 ID : 264330627935

Status : Answered

Chosen Option : 1

Q.9 कोशिका विभाजन की प्रक्रिया में, दो संतति केन्द्रकों (daughter nuclei) के बीच फ्रैग्मोप्लास्ट (phragmoplast) का निर्माण _____ के दौरान होता है।

- Ans
- 1. S चरण
 - 2. केंद्रकभाजन
 - 3. G0 चरण
 - 4. कोशिकाद्रव्य विभाजन

Question ID : 264330156617
Option 1 ID : 264330613857
Option 2 ID : 264330613856
Option 3 ID : 264330613858
Option 4 ID : 264330613855
Status : Answered
Chosen Option : 4

Q.10 'एटीएम (ATM)' का पूर्ण रूप क्या है?

- Ans
- 1. ऑटोमेटेड ट्रांजैक्शन मैनेजमेंट (Automated Transaction Management)
 - 2. ऑटोमेटेड टेलर मशीन (Automated Teller Machine)
 - 3. ऑल टाइम मनी (All-Time Money)
 - 4. अकाउंट ट्रैकिंग मॉड्यूल (Account Tracking Module)

Question ID : 264330157302
Option 1 ID : 264330616572
Option 2 ID : 264330616571
Option 3 ID : 264330616573
Option 4 ID : 264330616574
Status : Answered
Chosen Option : 2

Q.11 निम्नलिखित में से कौन 'अनफिनिशड: ए मेमॉयर (Unfinished: A Memoir)' पुस्तक की लेखिका हैं?

- Ans
- 1. प्रियंका चोपड़ा
 - 2. करीना कपूर
 - 3. आलिया भट्ट
 - 4. दीपिका पादुकोण

Question ID : 264330161907
Option 1 ID : 264330634957
Option 2 ID : 264330634958
Option 3 ID : 264330634956
Option 4 ID : 264330634955
Status : Answered
Chosen Option : 1

Q.12 दिए गए विकल्पों में से मिलखा सिंह की आत्मकथा का चयन कीजिए।

- Ans
- 1. वन लाइफ इज़ नॉट इनफ (One Life Is Not Enough)
 - 2. ए शॉट एट हिस्ट्री (A Shot at History)
 - 3. द टेस्ट ऑफ माई लाइफ (The Test of My Life)
 - 4. द रेस ऑफ माई लाइफ (The Race of My Life)

Question ID : 264330155493

Option 1 ID : 264330609378

Option 2 ID : 264330609375

Option 3 ID : 264330609377

Option 4 ID : 264330609376

Status : Answered

Chosen Option : 4

Q.13 देवेन्द्र झाझरिया ने विश्व पैरा एथलेटिक्स ग्रां प्री (World Para Athletics Grand Prix) में कौन-सा पदक/स्थान जीता?

- Ans
- 1. स्वर्ण
 - 2. कांस्य
 - 3. रजत
 - 4. चौथी

Question ID : 264330158364

Option 1 ID : 264330620815

Option 2 ID : 264330620817

Option 3 ID : 264330620816

Option 4 ID : 264330620818

Status : Answered

Chosen Option : 2

Q.14 महरी नृत्य (Mahari Dance) और गोटीपुआ नृत्य (Gotipua Dance) का संबंध निम्नलिखित में से किस राज्य से है?

- Ans
- 1. बिहार
 - 2. उत्तरप्रदेश
 - 3. हरियाणा
 - 4. ओडिशा

Question ID : 264330159060

Option 1 ID : 264330623602

Option 2 ID : 264330623601

Option 3 ID : 264330623600

Option 4 ID : 264330623599

Status : Answered

Chosen Option : 4

Q.15 लेबंग बूमानी (Lebang Boomani) नृत्य _____ का फसल नृत्य (harvest dance) है।

- Ans
- 1. मिजोरम
 - 2. मेघालय
 - 3. असम
 - 4. त्रिपुरा

Question ID : 264330159062
Option 1 ID : 264330623607
Option 2 ID : 264330623608
Option 3 ID : 264330623609
Option 4 ID : 264330623610
Status : Answered
Chosen Option : 1

Q.16 निम्नलिखित में से कौन-सा संगीतकार 'पंचम दा (Panchamda)' के नाम से प्रसिद्ध है?

- Ans
- 1. रवि
 - 2. आर. डी. बर्मन
 - 3. नौशाद
 - 4. खयाम

Question ID : 264330160974
Option 1 ID : 264330631228
Option 2 ID : 264330631227
Option 3 ID : 264330631230
Option 4 ID : 264330631229
Status : Answered
Chosen Option : 2

Q.17 पंडित भीमसेन जोशी का संबंध _____ घराने से था।

- Ans
- 1. दिल्ली
 - 2. आगरा
 - 3. बनारस
 - 4. किराना

Question ID : 264330155463
Option 1 ID : 264330609255
Option 2 ID : 264330609256
Option 3 ID : 264330609258
Option 4 ID : 264330609257
Status : Answered
Chosen Option : 4

Q.18 निम्नलिखित में से नर्तक/ नर्तकी और संबंधित नृत्य शैली की गलत जोड़ी की पहचान कीजिए।

- Ans
- ✓ 1. कुमकुम धर - कुचिपुड़ी
 - ✗ 2. श्रुति बंदोपाध्याय - मणिपुरी
 - ✗ 3. त्रिलोचन मोहंता - छउ
 - ✗ 4. मीनाक्षी चित्ररंजन - भरतनाट्यम

Question ID : 264330155529
Option 1 ID : 264330609520
Option 2 ID : 264330609521
Option 3 ID : 264330609522
Option 4 ID : 264330609519
Status : Not Answered
Chosen Option : --

Q.19 वह ईरानी शासक कौन था जिसने 1739 में दिल्ली शहर पर हमला किया और भारी मात्रा में धन-दौलत लूट लिया?

- Ans
- ✗ 1. अहमद शाह अब्दाली
 - ✗ 2. अहमद शाह कजर
 - ✗ 3. अब्बास प्रथम
 - ✓ 4. नादिर शाह

Question ID : 264330161735
Option 1 ID : 264330634267
Option 2 ID : 264330634268
Option 3 ID : 264330634270
Option 4 ID : 264330634269
Status : Answered
Chosen Option : 4

Q.20 भारत में प्रथम महिला विश्वविद्यालय की स्थापना किसके द्वारा की गई थी?

- Ans
- ✗ 1. आशुतोष मुखर्जी
 - ✓ 2. धोंडो केशव कर्वे
 - ✗ 3. सईद अहमद खान
 - ✗ 4. विलियम हंटर

Question ID : 264330162336
Option 1 ID : 264330636672
Option 2 ID : 264330636671
Option 3 ID : 264330636673
Option 4 ID : 264330636674
Status : Answered
Chosen Option : 2

Q.21 'मुक्तेश्वर' नृत्य महोत्सव 14 से 16 जनवरी तक _____ राज्य के मुक्तेश्वर मंदिर में आयोजित किया जाता है।

- Ans
- 1. हिमाचल प्रदेश
 - 2. ओडिशा
 - 3. उत्तराखंड
 - 4. मध्यप्रदेश

Question ID : 264330160839
Option 1 ID : 264330630688
Option 2 ID : 264330630689
Option 3 ID : 264330630687
Option 4 ID : 264330630690
Status : Answered
Chosen Option : 2

Q.22 भारत के किस पड़ोसी देश की आधिकारिक भाषा 'धिवेही (Dhivehi)' है?

- Ans
- 1. चीन
 - 2. श्रीलंका
 - 3. भूटान
 - 4. मालदीव

Question ID : 264330160174
Option 1 ID : 264330628035
Option 2 ID : 264330628036
Option 3 ID : 264330628037
Option 4 ID : 264330628038
Status : Not Answered
Chosen Option : --

Q.23 भारतीय विमानपत्तन प्राधिकरण की किस योजना के तहत जम्मू-कश्मीर के उपराज्यपाल ने स्थानीय कला और जम्मू-कश्मीर ग्रामीण आजीविका मिशन के स्वयं सहायता समूहों के कारीगरों के समर्थन के लिए श्रीनगर अंतरराष्ट्रीय हवाई अड्डे पर उम्मीद मार्केट प्लेस (UMEED Market Place) का उद्घाटन किया?

- Ans
- 1. अवसर योजना (AVSAR Scheme)
 - 2. एएसएआर योजना (ASAR Scheme)
 - 3. आकार योजना (AAKAR Scheme)
 - 4. आकाश योजना (AKASH Scheme)

Question ID : 264330161408
Option 1 ID : 264330632960
Option 2 ID : 264330632959
Option 3 ID : 264330632962
Option 4 ID : 264330632961
Status : Answered
Chosen Option : 1

Q.24 आधुनिक आवर्त सारणी में कितने तत्व सूचीबद्ध हैं?

- Ans 1. 91
 2. 81
 3. 107
 4. 118

Question ID : 264330161331
Option 1 ID : 264330632653
Option 2 ID : 264330632654
Option 3 ID : 264330632652
Option 4 ID : 264330632651
Status : Answered
Chosen Option : 1

Q.25 भारत ने फाइनल में किस देश को हराकर 2023 इंटरकॉन्टिनेंटल कप फुटबॉल चैंपियनशिप (Intercontinental Cup Football championship) जीती?

- Ans 1. थाईलैंड (Thailand)
 2. लेबनान (Lebanon)
 3. मंगोलिया (Mongolia)
 4. वानुअतु (Vanuatu)

Question ID : 264330161139
Option 1 ID : 264330631890
Option 2 ID : 264330631887
Option 3 ID : 264330631889
Option 4 ID : 264330631888
Status : Not Answered
Chosen Option : --

Section : English Language and Comprehension

Q.1 Parts of the following sentence have been underlined and given as options. Select the option that contains an error.
I will going on an official tour next week.

- Ans 1. an official tour
 2. next week
 3. will going
 4. on

Question ID : 264330153188
Option 1 ID : 264330600313
Option 2 ID : 264330600314
Option 3 ID : 264330600311
Option 4 ID : 264330600312
Status : Answered
Chosen Option : 3

Q.2 Select the correct spelling of the underlined word in the following sentence.

Today's lecture had a profond impact on my friend.

- Ans
- 1. prefound
 - 2. profoun
 - 3. prufound
 - 4. profound

Question ID : 264330153083
Option 1 ID : 264330599897
Option 2 ID : 264330599896
Option 3 ID : 264330599898
Option 4 ID : 264330599895
Status : Answered
Chosen Option : 4

Q.3 Select the most appropriate option that can substitute the underlined words in the following sentence.

Ramya's shoes are polish by her granddaughter.

- Ans
- 1. polishes
 - 2. had polished
 - 3. is polish
 - 4. are polished

Question ID : 264330152577
Option 1 ID : 264330597912
Option 2 ID : 264330597914
Option 3 ID : 264330597911
Option 4 ID : 264330597913
Status : Answered
Chosen Option : 4

Q.4 The following sentence has been split into four segments. Identify the segment that contains a grammatical error.

Some / private banks / pay their employees / good.

- Ans
- 1. private banks
 - 2. Some
 - 3. pay their employees
 - 4. good

Question ID : 264330153180
Option 1 ID : 264330600280
Option 2 ID : 264330600279
Option 3 ID : 264330600281
Option 4 ID : 264330600282
Status : Answered
Chosen Option : 4

Q.5 Parts of the following sentence have been underlined and given as options. Select the option that contains an error.

For an all-too-brief period between the late 1980s and the late 2000s, a world was characterised by convergence.

- Ans
- 1. a world was
 - 2. characterised by
 - 3. between the late
 - 4. For an all-too-brief

Question ID : 264330153194
Option 1 ID : 264330600336
Option 2 ID : 264330600338
Option 3 ID : 264330600337
Option 4 ID : 264330600335
Status : Answered
Chosen Option : 4

Q.6 The sentence given below has spelling errors. Select the sentence without spelling errors.

Let us appreciate, support and contribute our might to the promotional efforts of the community in this direction.

- Ans
- 1. Let us appreciate, suport and contribute our might to the promotional efforts of the community in this direction.
 - 2. Let us appreciate, support and contribute our might to the promotional efforts of the comunity in this direction.
 - 3. Let us appreciate, support and contribute our might to the promotional efforts of the community in this direction.
 - 4. Let us appreciate, support and contribute our might to the promotion all efforts of the community in this direction.

Question ID : 264330151841
Option 1 ID : 264330594991
Option 2 ID : 264330594994
Option 3 ID : 264330594993
Option 4 ID : 264330594992
Status : Answered
Chosen Option : 3

Q.7 Select the most appropriate synonym of the given word.
Elegant

- Ans
- 1. Ugly
 - 2. Mighty
 - 3. Tall
 - 4. Graceful

Question ID : 264330152747
Option 1 ID : 264330598588
Option 2 ID : 264330598589
Option 3 ID : 264330598590
Option 4 ID : 264330598587
Status : Answered
Chosen Option : 4

Q.8 Parts of the following sentence have been given as options. Select the option that contains an error.

Shelley and Keats are great writers, but I prefer the last.

- Ans
- 1. but I prefer
 - 2. are great writers
 - 3. Shelley and Keats
 - 4. the last

Question ID : 264330152803

Option 1 ID : 264330598805

Option 2 ID : 264330598804

Option 3 ID : 264330598803

Option 4 ID : 264330598806

Status : Answered

Chosen Option : 4

Q.9 Select the most appropriate meaning of the given idiom.
To get cold feet

- Ans
- 1. To run for life
 - 2. To fall sick
 - 3. To be afraid
 - 4. To be indifferent

Question ID : 264330156175

Option 1 ID : 264330612101

Option 2 ID : 264330612099

Option 3 ID : 264330612102

Option 4 ID : 264330612100

Status : Answered

Chosen Option : 3

Q.10 Select the most appropriate idiom to fill in the blank.

I don't think you should go out in the rain, it's _____.

- Ans
- 1. raining dogs and puppies
 - 2. storming cats and dogs
 - 3. raining cats and dogs
 - 4. rain on cats and dogs

Question ID : 264330153079

Option 1 ID : 264330599882

Option 2 ID : 264330599879

Option 3 ID : 264330599880

Option 4 ID : 264330599881

Status : Answered

Chosen Option : 3

Q.11 Select the most appropriate option to fill in the blank.
The team had a _____ with respect to the proposal given by Mr. Albert.

- Ans 1. disckassion
 2. discussion
 3. descussion
 4. discusion

Question ID : 264330153303
Option 1 ID : 264330600768
Option 2 ID : 264330600767
Option 3 ID : 264330600770
Option 4 ID : 264330600769
Status : Answered
Chosen Option : 2

Q.12 Select the most appropriate meaning of the given idiom.

Break the ice

- Ans 1. To say something that makes strangers uncomfortable
 2. To say something that makes people who are meeting for the first time more comfortable
 3. To say something that makes people excited for a group project
 4. To say something mean to people in a group

Question ID : 264330153072
Option 1 ID : 264330599854
Option 2 ID : 264330599851
Option 3 ID : 264330599853
Option 4 ID : 264330599852
Status : Answered
Chosen Option : 2

Q.13 Select the option that can be used as a one-word substitute for the given phrase.
A person who is known for his hatred towards the entire mankind.

- Ans 1. Insolvent
 2. Mercenary
 3. Philogynist
 4. Misanthrope

Question ID : 264330152672
Option 1 ID : 264330598291
Option 2 ID : 264330598293
Option 3 ID : 264330598294
Option 4 ID : 264330598292
Status : Answered
Chosen Option : 4

Q.14 Select the most appropriate meaning of the given idiom.
To keep one's temper

- Ans
- 1. To meet with disaster
 - 2. To become impatient
 - 3. To remain calm
 - 4. To become angry

Question ID : 264330153522
Option 1 ID : 264330601601
Option 2 ID : 264330601602
Option 3 ID : 264330601599
Option 4 ID : 264330601600
Status : Answered
Chosen Option : 3

Q.15 Select the most appropriate option that can substitute the underlined segment in the given sentence.
The food was too salty eat this morning.

- Ans
- 1. ate
 - 2. eating
 - 3. to eat
 - 4. to ate

Question ID : 264330153396
Option 1 ID : 264330601126
Option 2 ID : 264330601124
Option 3 ID : 264330601123
Option 4 ID : 264330601125
Status : Answered
Chosen Option : 3

Q.16 Select the most appropriate ANTONYM of the underlined word.
His amazing performance made him famous.

- Ans
- 1. Binary
 - 2. Ordinary
 - 3. Adversary
 - 4. Colliery

Question ID : 264330151816
Option 1 ID : 264330594893
Option 2 ID : 264330594892
Option 3 ID : 264330594891
Option 4 ID : 264330594894
Status : Answered
Chosen Option : 2

Q.17 Select the most appropriate synonym of the given word.
Design

- Ans** 1. Destroy
 2. Fabricate
 3. Inspect
 4. Copy

Question ID : 264330152779
Option 1 ID : 264330598707
Option 2 ID : 264330598709
Option 3 ID : 264330598708
Option 4 ID : 264330598710
Status : Answered
Chosen Option : 2

Q.18 Select the option that can be used as a one-word substitute for the given group of words.
A thing which happens every two years

- Ans** 1. Annual
 2. Century
 3. Biennial
 4. Bi-monthly

Question ID : 264330152584
Option 1 ID : 264330597941
Option 2 ID : 264330597940
Option 3 ID : 264330597939
Option 4 ID : 264330597942
Status : Answered
Chosen Option : 3

Q.19 Select the option that can be used as a one-word substitute for the given phrase.
A poem of lamentation on the death of someone loved and admired.

- Ans** 1. Soliloquy
 2. Elegy
 3. Epitaph
 4. Tragedy

Question ID : 264330152671
Option 1 ID : 264330598289
Option 2 ID : 264330598290
Option 3 ID : 264330598288
Option 4 ID : 264330598287
Status : Answered
Chosen Option : 2

Q.20 Parts of the following sentence have been given as options. Select the option that contains an error.

Jaya said that she will become topper in her class.

- Ans
- 1. that
 - 2. in her class
 - 3. she will become topper
 - 4. Jaya said

Question ID : 264330152821

Option 1 ID : 264330598876

Option 2 ID : 264330598878

Option 3 ID : 264330598877

Option 4 ID : 264330598875

Status : Answered

Chosen Option : 3

Comprehension:

In the following passage, some words have been deleted. Read the passage carefully and select the most appropriate option to fill in each blank.

Language is (1)_____ of the most fundamental aspects of human communication and interaction. It allows people from different cultures to connect and (2)_____ ideas. While many individuals grow up learning just one language, there are a variety of reasons why learning a second language can be beneficial. (3)_____, it can improve cognitive abilities, enhance job prospects and facilitate travel and cultural immersion. (4)_____ proficiency in a second language is an invaluable asset for personal growth as well as professional development. Audio-video mediums such as (5)_____ are among the best ways to learn a second language as they allow learners to engage with cultural content.

SubQuestion No : 21

Q.21 Select the most appropriate option to fill in blank number 1.

- Ans
- 1. four
 - 2. three
 - 3. one
 - 4. two

Question ID : 264330153414

Option 1 ID : 264330601187

Option 2 ID : 264330601190

Option 3 ID : 264330601188

Option 4 ID : 264330601189

Status : Answered

Chosen Option : 3

Comprehension:

In the following passage, some words have been deleted. Read the passage carefully and select the most appropriate option to fill in each blank.

Language is (1)_____ of the most fundamental aspects of human communication and interaction. It allows people from different cultures to connect and (2)_____ ideas. While many individuals grow up learning just one language, there are a variety of reasons why learning a second language can be beneficial. (3)_____, it can improve cognitive abilities, enhance job prospects and facilitate travel and cultural immersion. (4)_____ proficiency in a second language is an invaluable asset for personal growth as well as professional development. Audio-video mediums such as (5)_____ are among the best ways to learn a second language as they allow learners to engage with cultural content.

SubQuestion No : 22

Q.22 Select the most appropriate option to fill in blank number 2.

- Ans 1. sharing
 2. shared
 3. share
 4. shares

Question ID : 264330153415

Option 1 ID : 264330601191

Option 2 ID : 264330601192

Option 3 ID : 264330601194

Option 4 ID : 264330601193

Status : Answered

Chosen Option : 3

Comprehension:

In the following passage, some words have been deleted. Read the passage carefully and select the most appropriate option to fill in each blank.

Language is (1)_____ of the most fundamental aspects of human communication and interaction. It allows people from different cultures to connect and (2)_____ ideas. While many individuals grow up learning just one language, there are a variety of reasons why learning a second language can be beneficial. (3)_____, it can improve cognitive abilities, enhance job prospects and facilitate travel and cultural immersion. (4)_____ proficiency in a second language is an invaluable asset for personal growth as well as professional development. Audio-video mediums such as (5)_____ are among the best ways to learn a second language as they allow learners to engage with cultural content.

SubQuestion No : 23

Q.23 Select the most appropriate option to fill in blank number 3.

- Ans 1. Therefore
 2. However
 3. For example
 4. As it is

Question ID : 264330153416

Option 1 ID : 264330601196

Option 2 ID : 264330601195

Option 3 ID : 264330601197

Option 4 ID : 264330601198

Status : Answered

Chosen Option : 2

Comprehension:

In the following passage, some words have been deleted. Read the passage carefully and select the most appropriate option to fill in each blank.

Language is (1)_____ of the most fundamental aspects of human communication and interaction. It allows people from different cultures to connect and (2)_____ ideas. While many individuals grow up learning just one language, there are a variety of reasons why learning a second language can be beneficial. (3)_____, it can improve cognitive abilities, enhance job prospects and facilitate travel and cultural immersion. (4)_____ proficiency in a second language is an invaluable asset for personal growth as well as professional development. Audio-video mediums such as (5)_____ are among the best ways to learn a second language as they allow learners to engage with cultural content.

SubQuestion No : 24

Q.24 Select the most appropriate option to fill in blank number 4.

- Ans
- 1. Acquire
 - 2. Acquired
 - 3. Acquiring
 - 4. Acquires

Question ID : 264330153417

Option 1 ID : 264330601200

Option 2 ID : 264330601201

Option 3 ID : 264330601199

Option 4 ID : 264330601202

Status : Answered

Chosen Option : 3

Comprehension:

In the following passage, some words have been deleted. Read the passage carefully and select the most appropriate option to fill in each blank.

Language is (1)_____ of the most fundamental aspects of human communication and interaction. It allows people from different cultures to connect and (2)_____ ideas. While many individuals grow up learning just one language, there are a variety of reasons why learning a second language can be beneficial. (3)_____, it can improve cognitive abilities, enhance job prospects and facilitate travel and cultural immersion. (4)_____ proficiency in a second language is an invaluable asset for personal growth as well as professional development. Audio-video mediums such as (5)_____ are among the best ways to learn a second language as they allow learners to engage with cultural content.

SubQuestion No : 25

Q.25 Select the most appropriate option to fill in blank number 5.

- Ans
- 1. films
 - 2. books
 - 3. images
 - 4. podcasts

Question ID : 264330153418

Option 1 ID : 264330601204

Option 2 ID : 264330601205

Option 3 ID : 264330601206

Option 4 ID : 264330601203

Status : Answered

Chosen Option : 4

Multi Tasking Non Technical Staff and Havaladar CBIC and CBN Examination 2023

Roll Number	KD Job Updates
Candidate Name	KD Job Updates
Venue Name	iON Digital Zone iDZ 2 Hathipur
Exam Date	06/09/2023
Exam Time	9:00 AM - 11:00 AM
Subject	MTS Non Tech Havaladar CBIC and CBN Examination 2023

Section : Numerical and Mathematical Ability

Q.1 दो संख्याओं का अनुपात 2 : 5 है। उनका लघुत्तम समापवर्त्य 80 है। संख्याएं ज्ञात कीजिए।

- Ans
- 1. 14, 36
 - 2. 16, 38
 - 3. 18, 38
 - 4. 16, 40

Question ID : 264330156206
Option 1 ID : 264330612225
Option 2 ID : 264330612223
Option 3 ID : 264330612226
Option 4 ID : 264330612224
Status : Answered
Chosen Option : 4

Q.2 सुरजीत अकेले एक काम को 8 दिनों में पूरा कर सकता है और मनजीत अकेले उसी काम को 6 दिनों में पूरा कर सकता है। सुरजीत और मनजीत ने बारी-बारी से एक दिन छोड़कर काम करते हुए इस काम को करने का फैसला किया और पहले दिन सुरजीत काम शुरू करता है। काम कितने दिनों में पूरा होगा?

- Ans
- 1. 8 दिन
 - 2. 8.5 दिन
 - 3. 7.5 दिन
 - 4. 7 दिन

Question ID : 264330154134
Option 1 ID : 264330604001
Option 2 ID : 264330604002
Option 3 ID : 264330604000
Option 4 ID : 264330603999
Status : Answered
Chosen Option : 4

Q.3 A अपनी दैनिक आय का 20% खर्च करता है। यदि व्यय ₹250 है, तो उसकी दैनिक आय कितनी है?

- Ans
- 1. ₹2,500
 - 2. ₹800
 - 3. ₹1,500
 - 4. ₹1,250

Question ID : 264330154045

Option 1 ID : 264330603645

Option 2 ID : 264330603646

Option 3 ID : 264330603643

Option 4 ID : 264330603644

Status : Answered

Chosen Option : 4

Q.4 दी गई तालिका का अध्ययन कीजिए और नीचे दिए गए प्रश्न का उत्तर दीजिए।
तालिका में केंद्रों और उम्मीदवारों की पदानुसार संख्या दर्शाई गई है।

केंद्र	अधिकारी	क्लर्क	पर्यवेक्षक	क्षेत्राधिकारी
मुंबई	12000	18000	8000	200
चेन्नई	8000	10000	6000	100
हैदराबाद	10000	12000	7000	150
बेंगलुरु	9000	6000	5000	80
कोलकाता	14000	18000	6500	120

किस केंद्र पर उम्मीदवारों की संख्या सबसे अधिक है?

- Ans
- 1. हैदराबाद
 - 2. चेन्नई
 - 3. कोलकाता
 - 4. मुंबई

Question ID : 264330155978

Option 1 ID : 264330611311

Option 2 ID : 264330611314

Option 3 ID : 264330611312

Option 4 ID : 264330611313

Status : Answered

Chosen Option : 3

Q.5 ₹5,400 पर 7 वर्ष के लिए 4% वार्षिक की दर से साधारण ब्याज (₹ में) ज्ञात कीजिए।

- Ans
- ✗ 1. 1,380
 - ✗ 2. 1,172
 - ✗ 3. 1,230
 - ✓ 4. 1,512

Question ID : 264330155744
Option 1 ID : 264330610380
Option 2 ID : 264330610382
Option 3 ID : 264330610381
Option 4 ID : 264330610379
Status : Answered
Chosen Option : 4

Q.6 यदि एक त्रिभुज की भुजाओं का अनुपात 3 : 4 : 5 है और इसका परिमाप 24 m है, तो त्रिभुज का क्षेत्रफल ज्ञात कीजिए।

- Ans
- ✗ 1. 37 m²
 - ✓ 2. 24 m²
 - ✗ 3. 16 m²
 - ✗ 4. 32 m²

Question ID : 264330156065
Option 1 ID : 264330611662
Option 2 ID : 264330611660
Option 3 ID : 264330611659
Option 4 ID : 264330611661
Status : Answered
Chosen Option : 2

Q.7 एक बल्लेबाज 13वीं पारी में 96 रन बनाता है और इस प्रकार उसके औसत में 3 की वृद्धि हो जाती है। 13 पारियों के बाद उसका औसत ज्ञात कीजिए।

- Ans
- ✗ 1. 70
 - ✓ 2. 60
 - ✗ 3. 50
 - ✗ 4. 65

Question ID : 264330155987
Option 1 ID : 264330611350
Option 2 ID : 264330611348
Option 3 ID : 264330611347
Option 4 ID : 264330611349
Status : Answered
Chosen Option : 2

Q.8 एक विक्रेता द्वारा अपने माल को ₹3,200 में बेचने पर प्राप्त होने वाला लाभ, उसी माल को ₹3,000 में बेचने पर प्राप्त होने वाले लाभ के 7/5वें भाग के बराबर है। माल का क्रय मूल्य (₹ में) क्या है?

- Ans**
- 1. 2,400
 - 2. 2,900
 - 3. 2,700
 - 4. 2,500

Question ID : 264330156104
Option 1 ID : 264330611818
Option 2 ID : 264330611815
Option 3 ID : 264330611816
Option 4 ID : 264330611817
Status : Answered
Chosen Option : 4

Q.9 उस सबसे लंबे खंभे की लंबाई क्या है जिसे 24 m लंबे, 18 m चौड़े और 16 m ऊंचे एक इनडोर स्टेडियम में रखा जा सकता है?

- Ans**
- 1. 42 m
 - 2. 38 m
 - 3. 36 m
 - 4. 34 m

Question ID : 264330154108
Option 1 ID : 264330603895
Option 2 ID : 264330603896
Option 3 ID : 264330603897
Option 4 ID : 264330603898
Status : Answered
Chosen Option : 4

Q.10 X, 3 मिनट में 8 पेज टाइप कर सकता है। Y, 5 मिनट में 3 पेज टाइप कर सकता है। साथ मिलकर काम करते हुए वे 15 मिनट में कितने पेज टाइप कर सकते हैं?

- Ans**
- 1. 40
 - 2. 42
 - 3. 49
 - 4. 46

Question ID : 264330156239
Option 1 ID : 264330612355
Option 2 ID : 264330612356
Option 3 ID : 264330612358
Option 4 ID : 264330612357
Status : Answered
Chosen Option : 3

Q.11 एक निश्चित धनराशि को A, B और C के बीच 2 : 5 : 7 के अनुपात में बांटा जाना था, लेकिन गलती से इसे 5 : 2 : 7 के अनुपात में बांट दिया गया और इस प्रकार B को ₹150 की हानि हुई। धनराशि ज्ञात कीजिए।

- Ans
- ✗ 1. ₹850
 - ✗ 2. ₹900
 - ✓ 3. ₹700
 - ✗ 4. ₹625

Question ID : 264330156342

Option 1 ID : 264330612769

Option 2 ID : 264330612770

Option 3 ID : 264330612768

Option 4 ID : 264330612767

Status : Answered

Chosen Option : 3

Q.12 एक पुलिसकर्मी 108 m की दूरी से एक चोर को देखता है। चोर भागने लगता है और पुलिसकर्मी उसका पीछा करता है। यदि चोर और पुलिसकर्मी की चाल क्रमशः 21 km/h और 23 km/h है, तो पुलिसकर्मी द्वारा पकड़े जाने से पहले चोर को कितनी दूर (m में) भागना होगा?

- Ans
- ✗ 1. 1216
 - ✗ 2. 3121
 - ✓ 3. 1134
 - ✗ 4. 2534

Question ID : 264330154092

Option 1 ID : 264330603831

Option 2 ID : 264330603834

Option 3 ID : 264330603833

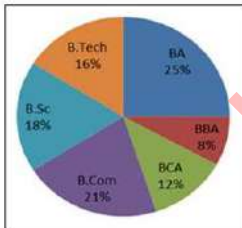
Option 4 ID : 264330603832

Status : Answered

Chosen Option : 3

Q.13 निम्नलिखित वृत्त आलेख में एक कॉलेज में अलग-अलग पाठ्यक्रमों में पढ़ने वाले विद्यार्थियों के प्रतिशत को दर्शाया गया है।

यदि विद्यार्थियों की कुल संख्या 1200 है, तो बीसीए और बी.एससी में पढ़ने वाले विद्यार्थियों की संख्या के बीच का अनुपात कितना है?



संदर्भ: B.Tech - बीटेक, BA - बीए, BBA - बीबीए, BCA - बीसीए, B.Com - बी.कॉम, B.Sc - बी.एससी

- Ans
- ✓ 1. 2 : 3
 - ✗ 2. 7 : 9
 - ✗ 3. 14 : 27
 - ✗ 4. 32 : 63

Question ID : 264330154067

Option 1 ID : 264330603732

Option 2 ID : 264330603734

Option 3 ID : 264330603731

Option 4 ID : 264330603733

Status : Answered

Chosen Option : 1

Q.14 चार किताबें और आठ कलमें ₹260 में खरीदी गईं। यदि एक किताब का औसत मूल्य ₹35 है, तो एक कलम का औसत मूल्य कितना होगा?

- Ans
- 1. ₹5
 - 2. ₹31
 - 3. ₹10
 - 4. ₹15

Question ID : 264330153868
Option 1 ID : 264330602935
Option 2 ID : 264330602936
Option 3 ID : 264330602938
Option 4 ID : 264330602937
Status : Answered
Chosen Option : 4

Q.15 एक कक्षा के 20 छात्रों का औसत भार 30.5 kg था। कक्षा में 6 नए छात्रों के शामिल होने के बाद, इसका औसत भार 2 kg बढ़ जाता है। कक्षा में शामिल होने वाले 6 नए छात्रों का औसत भार ज्ञात कीजिए (दशमलव के एक स्थान तक सन्निकटित)।

- Ans
- 1. 38.5 kg
 - 2. 30.5 kg
 - 3. 39.2 kg
 - 4. 32.5 kg

Question ID : 264330157323
Option 1 ID : 264330616655
Option 2 ID : 264330616657
Option 3 ID : 264330616658
Option 4 ID : 264330616656
Status : Answered
Chosen Option : 3

Q.16 एक किताब को किसी मूल्य पर बेचने पर अंकिता को 10% का लाभ होता है। यदि किताब को दुगने मूल्य पर बेचा जाता है, तो अंकिता के लिए लाभ प्रतिशत क्या होगा?

- Ans
- 1. 140%
 - 2. 120%
 - 3. 100%
 - 4. 125%

Question ID : 264330155708
Option 1 ID : 264330610238
Option 2 ID : 264330610236
Option 3 ID : 264330610235
Option 4 ID : 264330610237
Status : Answered
Chosen Option : 2

Q.17 1.5, 4.8 और 8 का चतुर्थ समानुपाती _____ है।

- Ans
- 1. 26.5
 - 2. 24.5
 - 3. 25.6
 - 4. 22.6

Question ID : 264330153770
Option 1 ID : 264330602545
Option 2 ID : 264330602544
Option 3 ID : 264330602543
Option 4 ID : 264330602546
Status : Answered
Chosen Option : 3

Q.18 समान लंबाई की दो रेलगाड़ियां समानांतर पटरियों पर समान दिशा में 36 km/h और 54 km/h की चाल से चल रही हैं। तेज रेलगाड़ी धीमी रेलगाड़ी को 48 सेकंड में पार कर जाती है। प्रत्येक रेलगाड़ी की लंबाई (m में) कितनी है?

- Ans
- 1. 160
 - 2. 80
 - 3. 120
 - 4. 240

Question ID : 264330156490
Option 1 ID : 264330613350
Option 2 ID : 264330613349
Option 3 ID : 264330613348
Option 4 ID : 264330613347
Status : Answered
Chosen Option : 3

Q.19 ₹72,000 की धनराशि पर 1.5 वर्ष के लिए 10% वार्षिक दर से अर्धवार्षिक रूप से संयोजित चक्रवृद्धि ब्याज और समान धनराशि पर 5% वार्षिक दर से 3 वर्ष के लिए साधारण ब्याज के बीच का अंतर कितना होगा?

- Ans
- 1. ₹540
 - 2. ₹449
 - 3. ₹559
 - 4. ₹549

Question ID : 264330154133
Option 1 ID : 264330603997
Option 2 ID : 264330603995
Option 3 ID : 264330603996
Option 4 ID : 264330603998
Status : Answered
Chosen Option : 4

Q.20 निम्नलिखित व्यंजक को सरल कीजिए।

$$45 - 22 \div 2 + 12 + 70 \div 35 + 0.4 \div 0.8 + 1.5 \div 3 + 1$$

- Ans
- 1. 50.5
 - 2. 50
 - 3. 54.5
 - 4. 48.5

Question ID : 264330153830
Option 1 ID : 264330602783
Option 2 ID : 264330602785
Option 3 ID : 264330602784
Option 4 ID : 264330602786
Status : Answered
Chosen Option : 2

Section : Reasoning Ability and Problem Solving

Q.1 एक निश्चित तर्क के अनुसार 8, 40 से संबंधित है। समान तर्क के अनुसार, 3, 15 से संबंधित है। समान तर्क का अनुसरण करते हुए 52 निम्नलिखित में से किससे संबंधित है?

- Ans
- 1. 263
 - 2. 262
 - 3. 261
 - 4. 260

Question ID : 264330151587
Option 1 ID : 264330593978
Option 2 ID : 264330593977
Option 3 ID : 264330593976
Option 4 ID : 264330593975
Status : Answered
Chosen Option : 4

Q.2 यदि 4 नवंबर 2021 को गुरुवार है, तो 13 मई 2023 को सप्ताह का कौन-सा दिन होगा?

- Ans
- 1. रविवार
 - 2. शनिवार
 - 3. शुक्रवार
 - 4. सोमवार

Question ID : 264330154358
Option 1 ID : 264330604898
Option 2 ID : 264330604895
Option 3 ID : 264330604896
Option 4 ID : 264330604897
Status : Answered
Chosen Option : 2

Q.3 नीचे दिए गए कथन/कथनों और निष्कर्षों को ध्यानपूर्वक पढ़िए। आपको मानना है कि दिए गए कथन सत्य हैं चाहे वे समान्यतः ज्ञात तथ्यों से अलग प्रतीत होते हों। आपको निश्चय करना है कि कौन-सा/कौन-से निष्कर्ष तार्किक रूप से दिए गए कथन/कथनों के अनुसार है/हैं।
कथन: सभी इमारतें, चॉक हैं। कोई चॉक, टॉफी नहीं है।
निष्कर्ष:
(I) कोई इमारत, टॉफी नहीं है।
(II) सभी चॉक, इमारतें हैं।

- Ans**
- 1. केवल निष्कर्ष (II) कथनों के अनुसार है।
 - 2. दोनों निष्कर्ष (I) और (II) कथनों के अनुसार हैं।
 - 3. न तो निष्कर्ष (I) और न ही (II) कथनों के अनुसार है।
 - 4. केवल निष्कर्ष (I) कथनों के अनुसार है।

Question ID : 264330154432

Option 1 ID : 264330605192

Option 2 ID : 264330605194

Option 3 ID : 264330605193

Option 4 ID : 264330605191

Status : Answered

Chosen Option : 4

Q.4 नीचे दिए गए कथनों और निष्कर्षों को ध्यानपूर्वक पढ़िए। आपको मानना है कि दिए गए कथन सत्य हैं चाहे वे समान्यतः ज्ञात तथ्यों से अलग प्रतीत होते हों। आपको निश्चय करना है कि कौन-सा/कौन-से निष्कर्ष तार्किक रूप से दिए गए कथनों के अनुसार है/हैं।
कथन: सभी केक, बिस्किट हैं। कुछ बिस्किट, टार्ट हैं। सभी टार्ट, पुडिंग हैं।
निष्कर्ष I: कुछ बिस्किट, केक हैं।
निष्कर्ष II: कुछ पुडिंग, बिस्किट हैं।

- Ans**
- 1. केवल निष्कर्ष (I) कथनों के अनुसार है।
 - 2. न तो निष्कर्ष (I) और न ही (II) कथनों के अनुसार है।
 - 3. केवल निष्कर्ष (II) कथनों के अनुसार है।
 - 4. दोनों निष्कर्ष (I) और (II) कथनों के अनुसार हैं।

Question ID : 264330155937

Option 1 ID : 264330611151

Option 2 ID : 264330611153

Option 3 ID : 264330611152

Option 4 ID : 264330611154

Status : Answered

Chosen Option : 4

Q.5 E, F, G, H, I और J एक वृत्ताकार मेज के चारों ओर केंद्र की ओर मुख करके बैठे हैं। J, I के ठीक बाईं ओर बैठा है। G, I के दाईं ओर से दूसरे स्थान पर बैठा है। E, G के दाईं ओर से दूसरे स्थान पर बैठा है। H, F के बाईं ओर से दूसरे स्थान पर बैठा है। E के दाईं ओर से तीसरे स्थान पर कौन बैठा है?

- Ans
- 1. F
 - 2. I
 - 3. J
 - 4. H

Question ID : 264330154472

Option 1 ID : 264330605354

Option 2 ID : 264330605353

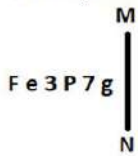
Option 3 ID : 264330605352

Option 4 ID : 264330605351

Status : Answered

Chosen Option : 4

Q.6 दी गई आकृति के उस सही दर्पण प्रतिबिंब को चुनिए, जो नीचे दर्शाए गए अनुसार दर्पण को MN पर रखने पर बनेगा।



- Ans
- 1. g 7 P 3 e F
 - 2. g 7 e 3 P F
 - 3. g 7 d 3 e F
 - 4. F e 3 P 7 g

Question ID : 264330151525

Option 1 ID : 264330593729

Option 2 ID : 264330593728

Option 3 ID : 264330593727

Option 4 ID : 264330593730

Status : Answered

Chosen Option : 1

Q.7 अंग्रेजी वर्णमाला क्रम के आधार पर दी गई श्रृंखला में प्रश्न चिह्न (?) के स्थान पर क्या आना चाहिए?

UDM, XGP, AJS, DMV, ?

- Ans
- 1. EOX
 - 2. FPX
 - 3. GPY
 - 4. FOY

Question ID : 264330155764

Option 1 ID : 264330610462

Option 2 ID : 264330610461

Option 3 ID : 264330610460

Option 4 ID : 264330610459

Status : Answered

Chosen Option : 3

Q.8 एक निश्चित कूट भाषा में, 'NAME' को '2473' लिखा जाता है और 'MEND' को '7642' लिखा जाता है। उसी कूट भाषा में 'D' को कैसे लिखा जाएगा?

- Ans
- 1. 4
 - 2. 7
 - 3. 2
 - 4. 6

Question ID : 264330151707

Option 1 ID : 264330594458

Option 2 ID : 264330594456

Option 3 ID : 264330594455

Option 4 ID : 264330594457

Status : Answered

Chosen Option : 4

Q.9 उस समुच्चय को चुनिए जिसमें संख्याएँ ठीक उसी प्रकार संबंधित हैं जिस प्रकार निम्नलिखित समुच्चयों की संख्याएँ संबंधित हैं।

(ध्यान दें: संख्याओं को उनके घटक अंकों में अलग-अलग किए बिना, पूर्ण संख्याओं पर संक्रियाएँ की जानी चाहिए। उदा. 13 - संख्या 13 पर संक्रियाएँ जैसे 13 को जोड़ना/घटाना/गुणा करना आदि किया जा सकता है। 13 को 1 और 3 में अलग-अलग करने की ओर फिर 1 और 3 पर गणितीय संक्रियाएँ करने की अनुमति नहीं है।)

(8, 720, 9)

(16, 800, 5)

- Ans
- 1. 7, 125, 8
 - 2. 18, 1260, 7
 - 3. 13, 169, 5
 - 4. 14, 238, 5

Question ID : 264330151611

Option 1 ID : 264330594071

Option 2 ID : 264330594073

Option 3 ID : 264330594072

Option 4 ID : 264330594074

Status : Answered

Chosen Option : 2

Q.10 एक निश्चित कूट भाषा में, 'CHORAL' को 'OHCLAR' लिखा जाता है और 'FOREGO' को 'ROFOGE' लिखा जाता है। उस कूट भाषा में 'GALLEY' को कैसे लिखा जाएगा?

- Ans
- 1. YELLAG
 - 2. GYALLE
 - 3. ELLAGY
 - 4. LAGYEL

Question ID : 264330155809

Option 1 ID : 264330610640

Option 2 ID : 264330610641

Option 3 ID : 264330610642

Option 4 ID : 264330610639

Status : Answered

Chosen Option : 4

Q.11 अंग्रेजी वर्णमाला क्रम के आधार पर LCNT, NEPV से एक निश्चित प्रकार से संबंधित है। उसी प्रकार, HBER, JDGT से संबंधित है। समान तर्क का अनुसरण करते हुए, OSCF निम्नलिखित में से किससे संबंधित है?

- Ans
- ✓ 1. QUEH
 - ✗ 2. PUDJ
 - ✗ 3. RVEH
 - ✗ 4. QVEI

Question ID : 264330151682
Option 1 ID : 264330594358
Option 2 ID : 264330594357
Option 3 ID : 264330594355
Option 4 ID : 264330594356
Status : Answered
Chosen Option : 1

Q.12 दी गई श्रृंखला में प्रश्न चिन्ह '?' के स्थान पर क्या आना चाहिए?

24 103 498 2473 12348 ?

- Ans
- ✗ 1. 60983
 - ✓ 2. 61723
 - ✗ 3. 63487
 - ✗ 4. 62457

Question ID : 264330151455
Option 1 ID : 264330593447
Option 2 ID : 264330593448
Option 3 ID : 264330593450
Option 4 ID : 264330593449
Status : Answered
Chosen Option : 2

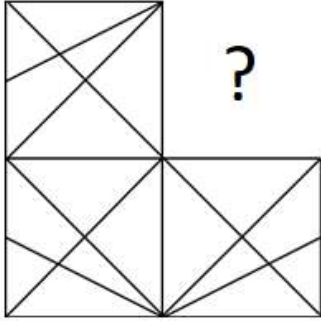
Q.13 अंग्रेजी वर्णमाला क्रम के आधार पर दी गई श्रृंखला में प्रश्न चिह्न (?) के स्थान पर क्या आना चाहिए?

TOY, UQB, VSE, WUH, ?

- Ans
- ✗ 1. YVJ
 - ✗ 2. ZWI
 - ✓ 3. XWK
 - ✗ 4. YUI

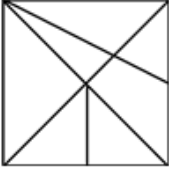
Question ID : 264330155774
Option 1 ID : 264330610499
Option 2 ID : 264330610502
Option 3 ID : 264330610500
Option 4 ID : 264330610501
Status : Answered
Chosen Option : 3

Q.14 पैटर्न को पूरा करने वाली आकृति को पहचानिए (घूर्णन की अनुमति नहीं है)।

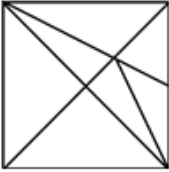


Ans

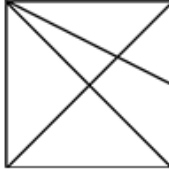
✗ 1.



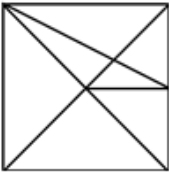
✗ 2.



✓ 3.



✗ 4.



KD Job Updates

Question ID : 264330154517

Option 1 ID : 264330605532

Option 2 ID : 264330605534

Option 3 ID : 264330605531

Option 4 ID : 264330605533

Status : Answered

Chosen Option : 3

Q.15 अंग्रेजी वर्णमाला क्रम के आधार पर दी गई श्रृंखला में प्रश्न चिह्न (?) के स्थान पर क्या आना चाहिए?

LPA, PSY, TVW, XYU, ?

Ans

✗ 1. CDS

✓ 2. BBS

✗ 3. DCR

✗ 4. CBR

Question ID : 264330155801

Option 1 ID : 264330610609

Option 2 ID : 264330610607

Option 3 ID : 264330610610

Option 4 ID : 264330610608

Status : Answered

Chosen Option : 2

Q.16 यदि T का अर्थ +, J का अर्थ ×, K का अर्थ - और L का अर्थ ÷ है, तो निम्नलिखित समीकरण में प्रश्न चिह्न (?) के स्थान पर क्या आएगा?
105 L (72 K 9) I 43 L (9 J 4) = ?

- Ans
- 1. 114
 - 2. 106
 - 3. 126
 - 4. 104

Question ID : 264330151798
Option 1 ID : 264330594820
Option 2 ID : 264330594819
Option 3 ID : 264330594821
Option 4 ID : 264330594822
Status : Answered
Chosen Option : 4

Q.17 दी गई श्रृंखला में प्रश्न चिह्न '?' के स्थान पर क्या आना चाहिए?

77 754 ? 75224 752224 7522224 75222224

- Ans
- 1. 7544
 - 2. 7524
 - 3. 7425
 - 4. 7254

Question ID : 264330151443
Option 1 ID : 264330593400
Option 2 ID : 264330593399
Option 3 ID : 264330593402
Option 4 ID : 264330593401
Status : Answered
Chosen Option : 2

Q.18 दी गई श्रृंखला में प्रश्न चिह्न '?' के स्थान पर क्या आना चाहिए?

64 61 55 46 34 ?

- Ans
- 1. 21
 - 2. 15
 - 3. 19
 - 4. 24

Question ID : 264330151722
Option 1 ID : 264330594515
Option 2 ID : 264330594518
Option 3 ID : 264330594517
Option 4 ID : 264330594516
Status : Answered
Chosen Option : 3

Q.19 यदि '+' और '-' को आपस में बदल दिया जाए तथा 'x' और '÷' को आपस में बदल दिया जाए तो निम्नलिखित समीकरण में (?) के स्थान पर क्या आएगा?
 $111 \times 3 - 13 \div 3 + 26 = ?$

- Ans
- ✓ 1. 50
 - ✗ 2. 70
 - ✗ 3. 40
 - ✗ 4. 60

Question ID : 264330155674

Option 1 ID : 264330610101

Option 2 ID : 264330610102

Option 3 ID : 264330610100

Option 4 ID : 264330610099

Status : Answered

Chosen Option : 1

Q.20 यदि निम्नलिखित आकृति श्रृंखला को जारी रखना हो तो कौन-सी आकृति प्रश्न चिन्ह (?) के स्थान पर आनी चाहिए?

6	☆	☆	B	U	H	H	B	
U	B	H	□	6	U	☆	B	Z
Z	□	H	Z	6	□	Z	6	?

Ans

- ✗ 1.

6	Z
☆	B
U	H
- ✗ 2.

6	Z
☆	H
B	U
- ✗ 3.

6	☆
B	H
□	U
- ✓ 4.

☆	Z
H	B
U	□

Question ID : 264330154740

Option 1 ID : 264330606426

Option 2 ID : 264330606425

Option 3 ID : 264330606423

Option 4 ID : 264330606424

Status : Answered

Chosen Option : 1

Q.1 किस वर्ष पाकिस्तान ने कबड्डी (सर्कल स्टाइल) विश्व कप जीता था?

Ans 1. 2020

2. 2016

3. 2014

4. 2013

Question ID : 264330158235

Option 1 ID : 264330620302

Option 2 ID : 264330620301

Option 3 ID : 264330620300

Option 4 ID : 264330620299

Status : Answered

Chosen Option : 2

Q.2 मार्च 2023 में मुंबई इंडियंस ने किस टीम को हराकर महिला प्रीमियर लीग (Women's Premier League) जीती?

Ans 1. रॉयल चैलेंजर्स

2. दिल्ली कैपिटल्स

3. यूपी वारियर्स

4. गुजरात जायंट्स

Question ID : 264330158352

Option 1 ID : 264330620768

Option 2 ID : 264330620769

Option 3 ID : 264330620770

Option 4 ID : 264330620767

Status : Answered

Chosen Option : 2

Q.3 _____ का सोंगी मुखवटे नृत्य (Songi Mukhawate dance) असत्य पर सत्य की जीत का जश्न मनाता है। इस नृत्य का नाम दो नृत्य कलाकारों द्वारा पहने जाने वाले दो शेर के मुखौटों से लिया गया है जो भगवान विष्णु के एक पहलू, नरसिम्हा को दर्शाता है।

Ans 1. गुजरात

2. मध्यप्रदेश

3. महाराष्ट्र

4. झारखंड

Question ID : 264330160802

Option 1 ID : 264330630540

Option 2 ID : 264330630541

Option 3 ID : 264330630539

Option 4 ID : 264330630542

Status : Answered

Chosen Option : 2

Q.4 मुंबई से गोवा के बीच भारत के पश्चिमी तट के विस्तार को _____ के रूप में जाना जाता है।

- Ans
- 1. कोरोमंडल तट
 - 2. कन्नड़ मैदान
 - 3. मालाबार तट
 - 4. कोंकण तट

Question ID : 264330161495

Option 1 ID : 264330633310

Option 2 ID : 264330633307

Option 3 ID : 264330633308

Option 4 ID : 264330633309

Status : Answered

Chosen Option : 3

Q.5 उत्तर-दक्षिण गलियारा, जो स्वर्णिम चतुर्भुज महा राजमार्ग का एक हिस्सा है, वह भारत के निम्नलिखित किन दो शहरों को जोड़ता है?

- Ans
- 1. श्रीनगर और कन्याकुमारी
 - 2. जम्मू और कन्याकुमारी
 - 3. लेह और चेन्नई
 - 4. दिल्ली और चेन्नई

Question ID : 264330161489

Option 1 ID : 264330633285

Option 2 ID : 264330633286

Option 3 ID : 264330633283

Option 4 ID : 264330633284

Status : Answered

Chosen Option : 4

Q.6 उत्तरप्रदेश सरकार द्वारा दूध उत्पादन को बढ़ावा देने के लिए शुरू की गई योजना का नाम क्या है?

- Ans
- 1. गोकुल दुग्ध मिशन
 - 2. कृष्ण बलराम दुग्ध मिशन
 - 3. गुआ रास मिशन
 - 4. नंद बाबा दुग्ध मिशन

Question ID : 264330158329

Option 1 ID : 264330620678

Option 2 ID : 264330620675

Option 3 ID : 264330620676

Option 4 ID : 264330620677

Status : Answered

Chosen Option : 4

Q.7 सामाजिक-धार्मिक सुधारों के उद्देश्य से रस्त गोपतार (Rast Gofatar) नामक पत्रिका किस समुदाय के लिए शुरू की गई थी?

- Ans
- 1. मुसलमान
 - 2. हिंदू
 - 3. सिख
 - 4. पारसी

Question ID : 264330160892

Option 1 ID : 264330630901

Option 2 ID : 264330630902

Option 3 ID : 264330630900

Option 4 ID : 264330630899

Status : Answered

Chosen Option : 4

Q.8 मानव विकास रिपोर्ट 2021-22 के अनुसार 191 देशों में भारत का कौन-सा स्थान है?

- Ans 1. 117
 2. 148
 3. 132
 4. 180

Question ID : 264330160167
Option 1 ID : 264330628010
Option 2 ID : 264330628008
Option 3 ID : 264330628009
Option 4 ID : 264330628007
Status : Answered
Chosen Option : 3

Q.9 परमाणु संख्या 35 वाले किस रासायनिक तत्व में तीक्ष्ण गंध (burning pungent odour) वाला गहरा लाल-भूरा तरल होता है?

- Ans 1. ऐस्टैटीन
 2. क्लोरीन
 3. ब्रोमीन
 4. टेनीसीन

Question ID : 264330161061
Option 1 ID : 264330631577
Option 2 ID : 264330631575
Option 3 ID : 264330631576
Option 4 ID : 264330631578
Status : Answered
Chosen Option : 3

Q.10 निम्नलिखित में से कौन-सी आत्मकथा संबंधित क्रिकेटर से सही ढंग से मेल नहीं खाती है?

- Ans 1. स्ट्रेट फ्रॉम द हार्ट - कपिल देव
 2. द टेस्ट ऑफ माई लाइफ: फ्रॉम क्रिकेट टू कैन्सर एंड बैक - युवराज सिंह
 3. प्लेइंग इट माई वे - वी. वी. एस. लक्ष्मण
 4. क्रिकेट डिलाइटफुल - मुश्ताक अली

Question ID : 264330161753
Option 1 ID : 264330634339
Option 2 ID : 264330634342
Option 3 ID : 264330634341
Option 4 ID : 264330634340
Status : Answered
Chosen Option : 3

Q.11 1928 में हिंदुस्तान सोशलिस्ट रिपब्लिकन एसोसिएशन की स्थापना कहां हुई थी?

- Ans 1. कानपुर
 2. दिल्ली
 3. अमृतसर
 4. लखनऊ

Question ID : 264330162324
Option 1 ID : 264330636625
Option 2 ID : 264330636626
Option 3 ID : 264330636624
Option 4 ID : 264330636623
Status : Answered
Chosen Option : 2

Q.12 निम्नलिखित में से किसे यूरोपीय नाट्य तकनीकों को भारतीय शास्त्रीय नृत्य में अपनाकर नृत्य की एक मिश्रित शैली बनाने के लिए जाना जाता है?

- Ans
- ✓ 1. उदय शंकर
 - ✗ 2. यामिनी कृष्णमूर्ति
 - ✗ 3. सोनल मानसिंह
 - ✗ 4. गोपी कृष्ण

Question ID : 264330155522
Option 1 ID : 264330609492
Option 2 ID : 264330609494
Option 3 ID : 264330609493
Option 4 ID : 264330609491
Status : Answered
Chosen Option : 1

Q.13 भारत के संविधान का कौन-सा अनुच्छेद राष्ट्रपति के कार्यों के निष्पादन में राष्ट्रपति को सहायता और सलाह देने के लिए प्रधान मंत्री की अध्यक्षता में मंत्रिपरिषद का प्रावधान करता है?

- Ans
- ✓ 1. अनुच्छेद 74
 - ✗ 2. अनुच्छेद 77
 - ✗ 3. अनुच्छेद 71
 - ✗ 4. अनुच्छेद 72

Question ID : 264330161288
Option 1 ID : 264330632481
Option 2 ID : 264330632482
Option 3 ID : 264330632479
Option 4 ID : 264330632480
Status : Answered
Chosen Option : 2

Q.14 निम्नलिखित में से कौन-सा भारत में सूक्ष्म वित्त संस्थानों का एक प्रमुख उद्देश्य है?

- Ans
- ✓ 1. वित्तीय समायोजन को बढ़ावा देना और निर्धनता निवारण
 - ✗ 2. विशेष रूप से महिला उद्यमियों को ऋण उपलब्ध कराना
 - ✗ 3. शेयरधारकों के मुनाफे को बढ़ाना
 - ✗ 4. बड़े पैमाने पर औद्योगीकरण को प्रोत्साहित करना

Question ID : 264330157288
Option 1 ID : 264330616516
Option 2 ID : 264330616517
Option 3 ID : 264330616515
Option 4 ID : 264330616518
Status : Answered
Chosen Option : 1

Q.15 अगस्त 2021 तक, भारत में कितनी शास्त्रीय नृत्य शैलियां संगीत नाटक अकादमी द्वारा आधिकारिक तौर मान्यता प्राप्त थी?

Ans 1. 8

2. 6

3. 9

4. 7

Question ID : 264330160786

Option 1 ID : 264330630477

Option 2 ID : 264330630475

Option 3 ID : 264330630478

Option 4 ID : 264330630476

Status : Answered

Chosen Option : 4

Q.16 किस प्रक्रिया को कभी-कभी "न्यूनीकरण विभाजन (reduction division)" कहा जाता है क्योंकि यह शुक्राणु और अंडे बनाने के लिए गुणसूत्रों की संख्या को सामान्य संख्या से आधा कर देता है?

Ans 1. अस्तरी विभाजन (Amitosis)

2. कोशिका द्रव्य विभाजन (Cytokinesis)

3. केंद्रक विभाजन (Karyokinesis)

4. अर्धसूत्री विभाजन (Meiosis)

Question ID : 264330161089

Option 1 ID : 264330631689

Option 2 ID : 264330631687

Option 3 ID : 264330631688

Option 4 ID : 264330631690

Status : Answered

Chosen Option : 4

Q.17 त्रिमुखी, पंचमुखी, सप्तमुखी और नवमुखी जैसे तालों की रचना करने का श्रेय किस भारतीय संगीत दिग्गज को दिया जाता है?

Ans 1. बड़े गुलाम अली खान (Bade Ghulam Ali Khan)

2. के.जे. येसुदास (KJ Yesudas)

3. पंडित जसराज (Pandit Jasraj)

4. एम. बालामुरलीकृष्ण (M Balamuralikrishna)

Question ID : 264330155464

Option 1 ID : 264330609261

Option 2 ID : 264330609262

Option 3 ID : 264330609259

Option 4 ID : 264330609260

Status : Answered

Chosen Option : 1

Q.18 एल नीनो का तात्पर्य क्या है?

- Ans
- 1. उच्च वायुदाब
 - 2. कम वायुदाब
 - 3. गर्म जल धारा
 - 4. दाब जल धारा

Question ID : 264330161310

Option 1 ID : 264330632570

Option 2 ID : 264330632569

Option 3 ID : 264330632567

Option 4 ID : 264330632568

Status : Answered

Chosen Option : 3

Q.19 _____ गुवाहाटी के कामाख्या मंदिर (Kamakhya temple) के सबसे महत्वपूर्ण त्योहारों में से एक है। यह हर साल मानसून (मध्य जून) के मौसम में आयोजित किया जाता है, जब मंदिर तांत्रिक अनुष्ठानों के लिए तीन दिनों के लिए बंद रहता है।

- Ans
- 1. अंबुबाची (Ambubachi)
 - 2. बैशागू (Baishagu)
 - 3. मी-दम-मी-फी (Me-Dum-Me-Phi)
 - 4. बिहु (Bihu)

Question ID : 264330160821

Option 1 ID : 264330630617

Option 2 ID : 264330630616

Option 3 ID : 264330630618

Option 4 ID : 264330630615

Status : Answered

Chosen Option : 1

Q.20 कामाख्या मंदिर (Kamakhya temple) किस शहर में स्थित है?

- Ans
- 1. देहरादून
 - 2. गुवाहाटी
 - 3. भोपाल
 - 4. इंदौर

Question ID : 264330160779

Option 1 ID : 264330630450

Option 2 ID : 264330630448

Option 3 ID : 264330630447

Option 4 ID : 264330630449

Status : Answered

Chosen Option : 2

Q.21 निम्नलिखित में से कौन-सा कथन सूक्ष्म वित्त संस्थान (MFI) को सबसे अच्छी तरह परिभाषित करता है?

- Ans
- 1. सूक्ष्म वित्त संगठन (MFIs) निवेश कंपनियां हैं जो विशेष रूप से बहुत अधिक नेट-वर्थ वाले व्यक्तियों को सेवाएं प्रदान करती हैं।
 - 2. सूक्ष्म वित्त संगठन (MFIs) सरकारी एजेंसियां हैं जो सूक्ष्म वित्त क्षेत्र को विनियमित करती हैं।
 - 3. सूक्ष्म वित्त संगठन (MFIs) ऐसे बैंक हैं जो केवल बड़े निगमों को ऋण प्रदान करते हैं।
 - 4. सूक्ष्म वित्त संगठन (MFIs) गैर-लाभकारी संगठन हैं जो कम आय वाले व्यक्तियों और छोटे व्यवसायों को वित्तीय सेवाएं प्रदान करते हैं।

Question ID : 264330157284

Option 1 ID : 264330616502

Option 2 ID : 264330616501

Option 3 ID : 264330616499

Option 4 ID : 264330616500

Status : Answered

Chosen Option : 4

Q.22 राज्य के नीति निर्देशक सिद्धांतों का स्रोत क्या है?

- Ans
- 1. भारत सरकार अधिनियम 1935 से निर्देशों का साधन (The instrument of instructions from GOI Act 1935)
 - 2. भारत सरकार अधिनियम 1909 से निर्देशों का साधन (The instrument of instructions from GOI Act 1909)
 - 3. भारत सरकार अधिनियम 1919 से निर्देशों का साधन (The instrument of instructions from GOI Act 1919)
 - 4. भारत सरकार अधिनियम 1947 से निर्देशों का साधन (The instrument of instructions from GOI Act 1947)

Question ID : 264330161397

Option 1 ID : 264330632917

Option 2 ID : 264330632915

Option 3 ID : 264330632916

Option 4 ID : 264330632918

Status : Answered

Chosen Option : 1

Q.23 26 जनवरी को संविधान के उद्घाटन की तारीख के रूप में चुना गया था क्योंकि 1930 में इसी तारीख को, भारतीय राष्ट्रीय कांग्रेस ने _____ का खुलासा किया था।

- Ans
- 1. भारत छोड़ो आंदोलन
 - 2. पूर्ण स्वराज आंदोलन
 - 3. खिलाफत आंदोलन
 - 4. नमक सत्याग्रह

Question ID : 264330161346

Option 1 ID : 264330632712

Option 2 ID : 264330632711

Option 3 ID : 264330632714

Option 4 ID : 264330632713

Status : Answered

Chosen Option : 2

Q.24 द गाइड 1958 में भारतीय लेखक _____ द्वारा अंग्रेजी में लिखा गया एक उपन्यास है।

- Ans
- 1. नीरद चौधरी
 - 2. आर.के. नारायण
 - 3. खुशवंत सिंह
 - 4. मुल्कराज आनंद

Question ID : 264330155452
Option 1 ID : 264330609214
Option 2 ID : 264330609213
Option 3 ID : 264330609212
Option 4 ID : 264330609211
Status : Answered
Chosen Option : 1

Q.25 13वीं हॉकी इंडिया सीनियर महिला राष्ट्रीय हॉकी चैम्पियनशिप कहां आयोजित की गई?

- Ans
- 1. आंध्र प्रदेश
 - 2. कर्नाटक
 - 3. नई दिल्ली
 - 4. पंजाब

Question ID : 264330161155
Option 1 ID : 264330631951
Option 2 ID : 264330631954
Option 3 ID : 264330631953
Option 4 ID : 264330631952
Status : Answered
Chosen Option : 3

Section : English Language and Comprehension

Q.1 Select the most appropriate meaning of the given idiom.

Bigger fish to fry

- Ans
- 1. To barely get something done
 - 2. Having something more important to take care of
 - 3. Having work more than one's capacity
 - 4. To be similar to one's parents in some way

Question ID : 264330153013
Option 1 ID : 264330599626
Option 2 ID : 264330599624
Option 3 ID : 264330599623
Option 4 ID : 264330599625
Status : Answered
Chosen Option : 3

Q.2 There is a spelling error in the given sentence. Select the option that contains the **INCORRECTLY** spelt word.

The hungry goblin scratched the grammar book with a feather.

- Ans
- 1. feather
 - 2. scratched
 - 3. grammar
 - 4. hungry

Question ID : 264330152836
Option 1 ID : 264330598938
Option 2 ID : 264330598936
Option 3 ID : 264330598937
Option 4 ID : 264330598935
Status : Answered
Chosen Option : 4

Q.3 Select the most appropriate option to fill in the blank.
The rusty door made a _____ screeching noise.

- Ans
- 1. smooth
 - 2. harsh
 - 3. low
 - 4. soft

Question ID : 264330152638
Option 1 ID : 264330598155
Option 2 ID : 264330598156
Option 3 ID : 264330598157
Option 4 ID : 264330598158
Status : Answered
Chosen Option : 2

Q.4 Select the most appropriate **ANTONYM** of the given word.
Enormous

- Ans
- 1. Inapposite
 - 2. Tiny
 - 3. Irrelevant
 - 4. Gigantic

Question ID : 264330151876
Option 1 ID : 264330595126
Option 2 ID : 264330595124
Option 3 ID : 264330595125
Option 4 ID : 264330595123
Status : Answered
Chosen Option : 2

Q.5 There is a spelling error in the given sentence. Select the option that contains the **INCORRECTLY** spelt word.

The questionnaire appeared to be misrably designed.

- Ans 1. questionnaire
 2. misrably
 3. appeared
 4. designed

Question ID : 264330152839
Option 1 ID : 264330598947
Option 2 ID : 264330598949
Option 3 ID : 264330598948
Option 4 ID : 264330598950
Status : Answered
Chosen Option : 2

Q.6 The following sentence has been split into four segments. Identify the segment that contains a grammatical error.

This is the first time / I ate such / a tasty cake.

- Ans 1. I ate such
 2. This is the first time
 3. a tasty cake
 4. No error

Question ID : 264330153616
Option 1 ID : 264330601948
Option 2 ID : 264330601947
Option 3 ID : 264330601949
Option 4 ID : 264330601950
Status : Answered
Chosen Option : 1

Q.7 Select the most appropriate synonym of the given word.
Cordial

- Ans 1. Aromatic
 2. Friendly
 3. Brave
 4. Unfriendly

Question ID : 264330151918
Option 1 ID : 264330595289
Option 2 ID : 264330595288
Option 3 ID : 264330595290
Option 4 ID : 264330595287
Status : Answered
Chosen Option : 2

Q.8 Four words of the following sentence have been underlined and given as options. Select the option that contains a spelling error.

All life depends on a healthy planet, but the interwoven systems of atmosphere, oceans, watercourses, land, ice cover and biosphere, which form the natural environment, are threatned by human activities.

- Ans
- 1. watercourses
 - 2. threatned
 - 3. interwoven
 - 4. biosphere

Question ID : 264330151928
Option 1 ID : 264330595328
Option 2 ID : 264330595330
Option 3 ID : 264330595327
Option 4 ID : 264330595329
Status : Answered
Chosen Option : 1

Q.9 Select the most appropriate option to fill in the blank.

The tone of his voice seemed to _____ that he knew more than he was letting on.

- Ans
- 1. intent
 - 2. incise
 - 3. inculcate
 - 4. imply

Question ID : 264330151864
Option 1 ID : 264330595078
Option 2 ID : 264330595077
Option 3 ID : 264330595075
Option 4 ID : 264330595076
Status : Answered
Chosen Option : 2

Q.10 Select the most appropriate option to fill in the blank.

Varun has to _____ his studies for the sake of his ill father.

- Ans
- 1. applaud
 - 2. reverse
 - 3. sacrifice
 - 4. imitate

Question ID : 264330153551
Option 1 ID : 264330601706
Option 2 ID : 264330601704
Option 3 ID : 264330601703
Option 4 ID : 264330601705
Status : Answered
Chosen Option : 3

Q.11 Select the most appropriate option to fill in the blank.
COVID-19 _____ structural weaknesses in health systems worldwide and negatively impacted individuals, societies, and economies.

- Ans
- 1. concealed
 - 2. hit
 - 3. laid
 - 4. revealed

Question ID : 264330151903
Option 1 ID : 264330595227
Option 2 ID : 264330595229
Option 3 ID : 264330595228
Option 4 ID : 264330595230
Status : Answered
Chosen Option : 4

Q.12 Select the most appropriate option to fill in the blank.
Tom waited until _____ to start working on his term paper but managed to finish it just in time.

- Ans
- 1. the eleventh hour
 - 2. the twelfth hour
 - 3. the tenth hour
 - 4. the thirteenth hour

Question ID : 264330151885
Option 1 ID : 264330595159
Option 2 ID : 264330595161
Option 3 ID : 264330595160
Option 4 ID : 264330595162
Status : Answered
Chosen Option : 1

Q.13 Select the most appropriate meaning of the underlined idiom.

The Indian team had its back against the wall, but managed to fight back.

- Ans
- 1. Forced to indulge in propaganda
 - 2. In extreme joy or exhilaration
 - 3. Stuck in a difficult circumstance with no escape
 - 4. Throwing the opposition off guard

Question ID : 264330153142
Option 1 ID : 264330600128
Option 2 ID : 264330600127
Option 3 ID : 264330600129
Option 4 ID : 264330600130
Status : Answered
Chosen Option : 3

Q.14 Select the most appropriate option that can substitute the underlined segment in the given sentence.

She will handling the baby as tenderly as possible.

- Ans
- 1. will handled
 - 2. shall handles
 - 3. wills handle
 - 4. will handle

Question ID : 264330153483
Option 1 ID : 264330601448
Option 2 ID : 264330601447
Option 3 ID : 264330601450
Option 4 ID : 264330601449
Status : Answered
Chosen Option : 4

Q.15 Parts of the following sentence have been given as options. Select the option that contains an error.
Vikram is very stronger than I am.

- Ans
- 1. than
 - 2. I am
 - 3. Vikram is
 - 4. very stronger

Question ID : 264330152798
Option 1 ID : 264330598785
Option 2 ID : 264330598786
Option 3 ID : 264330598783
Option 4 ID : 264330598784
Status : Answered
Chosen Option : 4

Q.16 Select the option that can be used as a one-word substitute for the given group of words.
A lover of books

- Ans
- 1. Teacher
 - 2. Bibliophile
 - 3. Philosopher
 - 4. Librarian

Question ID : 264330152737
Option 1 ID : 264330598547
Option 2 ID : 264330598550
Option 3 ID : 264330598549
Option 4 ID : 264330598548
Status : Answered
Chosen Option : 2

Q.17 Select the most appropriate ANTONYM of the given word.
Annoy

- Ans 1. Irritate
 2. Gratify
 3. Thrill
 4. Vex

Question ID : 264330152593
Option 1 ID : 264330597975
Option 2 ID : 264330597977
Option 3 ID : 264330597978
Option 4 ID : 264330597976
Status : Answered
Chosen Option : 3

Q.18 Parts of the following sentence have been given as options. Select the option that contains an error.

A old woman suddenly laughed, sounding just like an amused hen.

- Ans 1. suddenly laughed
 2. A old woman
 3. like an amused hen
 4. sounding just

Question ID : 264330153606
Option 1 ID : 264330601908
Option 2 ID : 264330601907
Option 3 ID : 264330601910
Option 4 ID : 264330601909
Status : Answered
Chosen Option : 2

Q.19 Select the most appropriate meaning of the given idiom.
A storm in a teacup

- Ans 1. Suffering in silence
 2. Much excitement over something trivial
 3. Easy money
 4. A signal for upcoming storm

Question ID : 264330156386
Option 1 ID : 264330612944
Option 2 ID : 264330612945
Option 3 ID : 264330612946
Option 4 ID : 264330612943
Status : Answered
Chosen Option : 2

Q.20 Select the most appropriate option that can substitute the underlined segment in the given sentence.

You are always try with jump over the wall.

- Ans
- 1. trying in jumping
 - 2. trying to jump
 - 3. try to jump
 - 4. tried with jump

Question ID : 264330153475

Option 1 ID : 264330601415

Option 2 ID : 264330601418

Option 3 ID : 264330601416

Option 4 ID : 264330601417

Status : Answered

Chosen Option : 2

Comprehension:

In the following passage, some words have been deleted. Read the passage carefully and select the most appropriate option to fill in the blanks.

Kasturi went to the garden looking for her mother. Her dog Rex was waiting (1)____ her. Kasturi picked up a stick and threw it. Rex (2)_____ the stick and brought it back. Kasturi ran (3)___ the house. Rex chased her. Kasturi ran through the garden and Rex (4)____ her. Mother yelled at both of them. She told them to stay (5)_____ of the garden and play somewhere else. Kasturi apologised to her mother. She went for a bike ride while Rex ran next to the bike.

SubQuestion No : 21

Q.21 Select the most appropriate option to fill in blank number 1.

- Ans
- 1. by
 - 2. for
 - 3. to
 - 4. with

Question ID : 264330152950

Option 1 ID : 264330599378

Option 2 ID : 264330599376

Option 3 ID : 264330599377

Option 4 ID : 264330599375

Status : Answered

Chosen Option : 2

Comprehension:

In the following passage, some words have been deleted. Read the passage carefully and select the most appropriate option to fill in the blanks.

Kasturi went to the garden looking for her mother. Her dog Rex was waiting (1)____ her. Kasturi picked up a stick and threw it. Rex (2)_____ the stick and brought it back. Kasturi ran (3)___ the house. Rex chased her. Kasturi ran through the garden and Rex (4)____ her. Mother yelled at both of them. She told them to stay (5)_____ of the garden and play somewhere else. Kasturi apologised to her mother. She went for a bike ride while Rex ran next to the bike.

SubQuestion No : 22

Q.22 Select the most appropriate option to fill in blank number 2.

- Ans
- 1. throws
 - 2. chases
 - 3. threw
 - 4. chased

Question ID : 264330152951

Option 1 ID : 264330599382

Option 2 ID : 264330599380

Option 3 ID : 264330599379

Option 4 ID : 264330599381

Status : Answered

Chosen Option : 4

Comprehension:

In the following passage, some words have been deleted. Read the passage carefully and select the most appropriate option to fill in the blanks.

Kasturi went to the garden looking for her mother. Her dog Rex was waiting (1)____ her. Kasturi picked up a stick and threw it. Rex (2)_____ the stick and brought it back. Kasturi ran (3)___ the house. Rex chased her. Kasturi ran through the garden and Rex (4)____ her. Mother yelled at both of them. She told them to stay (5)_____ of the garden and play somewhere else. Kasturi apologised to her mother. She went for a bike ride while Rex ran next to the bike.

SubQuestion No : 23

Q.23 Select the most appropriate option to fill in blank number 3.

- Ans
- 1. in
 - 2. around
 - 3. round
 - 4. about

Question ID : 264330152952

Option 1 ID : 264330599386

Option 2 ID : 264330599384

Option 3 ID : 264330599383

Option 4 ID : 264330599385

Status : Answered

Chosen Option : 2

Comprehension:

In the following passage, some words have been deleted. Read the passage carefully and select the most appropriate option to fill in the blanks.

Kasturi went to the garden looking for her mother. Her dog Rex was waiting (1)____ her. Kasturi picked up a stick and threw it. Rex (2)_____ the stick and brought it back. Kasturi ran (3)___ the house. Rex chased her. Kasturi ran through the garden and Rex (4)____ her. Mother yelled at both of them. She told them to stay (5)_____ of the garden and play somewhere else. Kasturi apologised to her mother. She went for a bike ride while Rex ran next to the bike.

SubQuestion No : 24

Q.24 Select the most appropriate option to fill in blank number 4.

- Ans 1. listen
 2. followed
 3. obey
 4. came

Question ID : 264330152953

Option 1 ID : 264330599387

Option 2 ID : 264330599388

Option 3 ID : 264330599390

Option 4 ID : 264330599389

Status : Answered

Chosen Option : 2

Comprehension:

In the following passage, some words have been deleted. Read the passage carefully and select the most appropriate option to fill in the blanks.

Kasturi went to the garden looking for her mother. Her dog Rex was waiting (1)____ her. Kasturi picked up a stick and threw it. Rex (2)_____ the stick and brought it back. Kasturi ran (3)___ the house. Rex chased her. Kasturi ran through the garden and Rex (4)____ her. Mother yelled at both of them. She told them to stay (5)_____ of the garden and play somewhere else. Kasturi apologised to her mother. She went for a bike ride while Rex ran next to the bike.

SubQuestion No : 25

Q.25 Select the most appropriate option to fill in blank number 5.

- Ans 1. in
 2. of
 3. out
 4. from

Question ID : 264330152954

Option 1 ID : 264330599392

Option 2 ID : 264330599394

Option 3 ID : 264330599391

Option 4 ID : 264330599393

Status : Answered

Chosen Option : 3

Multi Tasking Non Technical Staff and Havaladar CBIC and CBN Examination 2023

Roll Number	KD Job Updates
Candidate Name	KD Job Updates
Venue Name	Islamiya Karimiya College
Exam Date	06/09/2023
Exam Time	12:30 PM - 2:30 PM
Subject	MTS Non Tech Havaladar CBIC and CBN Examination 2023

Section : Numerical and Mathematical Ability

Q.1 निम्नलिखित व्यंजक को सरल कीजिए।

$$15 \div 5 \text{ of } 3 \times 4 + 8 \div 12 \text{ of } 4 \times 12 - 4 \div 5 \times 20$$

Ans

✗ 1. $\frac{20}{3}$

✗ 2. 1

✓ 3. -10

✗ 4. 12

Question ID : 264330158196

Option 1 ID : 264330620144

Option 2 ID : 264330620145

Option 3 ID : 264330620143

Option 4 ID : 264330620146

Status : Answered

Chosen Option : 3

Q.2 एक निश्चित राशि पर 15% वार्षिक दर से 4 वर्षों का साधारण ब्याज, समान धनराशि पर और समान ब्याज दर पर 6 वर्षों के साधारण ब्याज से ₹4,500 कम है। वह धनराशि ज्ञात कीजिए।

Ans

✗ 1. ₹13,000

✓ 2. ₹15,000

✗ 3. ₹12,000

✗ 4. ₹14,000

Question ID : 264330156227

Option 1 ID : 264330612308

Option 2 ID : 264330612310

Option 3 ID : 264330612307

Option 4 ID : 264330612309

Status : Answered

Chosen Option : 2

Q.3 समान धरिता (क्षमता) वाले दो पात्र दूध और पानी के मिश्रण से भरे हुए हैं। पहले पात्र में, दूध और पानी का अनुपात 3 : 11 है और दूसरे पात्र में अनुपात 9 : 11 है। यदि दोनों मिश्रणों को एक पात्र में मिलाया जाता है, तो परिणामी मिश्रण में दूध और पानी का अनुपात क्या है?

- Ans**
- ✓ 1. 93 : 187
 - ✗ 2. 21 : 87
 - ✗ 3. 93 : 179
 - ✗ 4. 87 : 197

Question ID : 264330154078

Option 1 ID : 264330603778

Option 2 ID : 264330603775

Option 3 ID : 264330603776

Option 4 ID : 264330603777

Status : Answered

Chosen Option : 1

Q.4 एक आदमी 8 km/h की चाल से एक निश्चित दूरी तय करने में 30 मिनट का समय लेता है। यदि वह 16 km/h की चाल से चलता है, तो वह उतनी ही दूरी कितने मिनटों में तय करेगा?

- Ans**
- ✗ 1. 30 मिनट
 - ✓ 2. 15 मिनट
 - ✗ 3. 25 मिनट
 - ✗ 4. 20 मिनट

Question ID : 264330156232

Option 1 ID : 264330612330

Option 2 ID : 264330612327

Option 3 ID : 264330612329

Option 4 ID : 264330612328

Status : Answered

Chosen Option : 2

Q.5 एक घन के प्रत्येक किनारे में 30% की वृद्धि की जाती है। इसके पृष्ठीय क्षेत्रफल में कितने प्रतिशत की वृद्धि होगी?

- Ans**
- ✓ 1. 69%
 - ✗ 2. 30%
 - ✗ 3. 90%
 - ✗ 4. 60%

Question ID : 264330154070

Option 1 ID : 264330603744

Option 2 ID : 264330603746

Option 3 ID : 264330603745

Option 4 ID : 264330603743

Status : Answered

Chosen Option : 1

Q.6 A और B एक काम को $5\frac{1}{3}$ दिनों में पूरा कर सकते हैं। A अकेले इस काम को 8 दिनों में पूरा कर सकता है। A और B इस काम को पूरा करने के लिए बारी-बारी से एक दिन छोड़कर काम करते हैं (B पहले दिन काम शुरू करता है)। काम कितने दिनों में पूरा हो जाएगा?

- Ans**
- 1. $11\frac{1}{3}$ दिन
 - 2. 6 दिन
 - 3. $6\frac{1}{3}$ दिन
 - 4. 11 दिन

Question ID : 264330154135

Option 1 ID : 264330604005

Option 2 ID : 264330604003

Option 3 ID : 264330604006

Option 4 ID : 264330604004

Status : Answered

Chosen Option : 4

Q.7 यदि किसी वस्तु के क्रय मूल्य पर 25% का लाभ होता है, तो उसके विक्रय मूल्य पर परिकल्पित किए गए लाभ का प्रतिशत कितना होगा?

- Ans**
- 1. 20%
 - 2. 15%
 - 3. 18%
 - 4. 22%

Question ID : 264330155961

Option 1 ID : 264330611244

Option 2 ID : 264330611245

Option 3 ID : 264330611246

Option 4 ID : 264330611243

Status : Answered

Chosen Option : 1

Q.8 किस वार्षिक दर पर ₹6,400 की धनराशि पर 2 वर्षों में ₹1,344 का (वार्षिक रूप से संयोजित) चक्रवृद्धि ब्याज प्राप्त होगा?

- Ans**
- 1. 10%
 - 2. 8%
 - 3. 5%
 - 4. 12%

Question ID : 264330154130

Option 1 ID : 264330603983

Option 2 ID : 264330603985

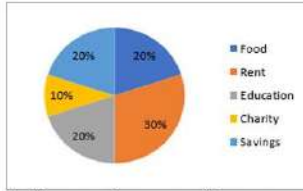
Option 3 ID : 264330603986

Option 4 ID : 264330603984

Status : Answered

Chosen Option : 1

Q.9 निम्नलिखित वृत्त-आलेख में एक परिवार के अलग-अलग मदों जैसे - भोजन, किराया, शिक्षा, दान और बचत के मासिक बजट को दर्शाया गया है। परिवार की कुल आय ₹9,000 है। वृत्त-आलेख का ध्यानपूर्वक अध्ययन कीजिए और नीचे दिए गए प्रश्न का उत्तर दीजिए।



संदर्भ: Food - भोजन, Rent - किराया, Education - शिक्षा, Charity - दान, Savings - बचत

मदों जैसे- किराया, बचत, भोजन और शिक्षा पर कुल व्यय कितना है?

- Ans
- ✓ 1. ₹8,100
 - ✗ 2. ₹6,500
 - ✗ 3. ₹8,200
 - ✗ 4. ₹6,300

Question ID : 264330153859

Option 1 ID : 264330602902

Option 2 ID : 264330602900

Option 3 ID : 264330602899

Option 4 ID : 264330602901

Status : Answered

Chosen Option : 1

Q.10 यदि $p : q = 5 : 2$, तो $p^2 - q^2 : p^2 + q^2 = ?$

- Ans
- ✗ 1. 29 : 21
 - ✗ 2. 3 : 4
 - ✓ 3. 21 : 29
 - ✗ 4. 4 : 3

Question ID : 264330154126

Option 1 ID : 264330603968

Option 2 ID : 264330603969

Option 3 ID : 264330603967

Option 4 ID : 264330603970

Status : Answered

Chosen Option : 3

Q.11 दो टैंकरों में 850 लीटर और 680 लीटर तेल है। किसी पात्र की वह अधिकतम क्षमता (धारिता) ज्ञात कीजिए जो उपयोग किए जाने पर दोनों टैंकरों के तेल को सटीक संख्या में माप सकता है।

- Ans
- ✗ 1. 340 लीटर
 - ✗ 2. 680 लीटर
 - ✓ 3. 170 लीटर
 - ✗ 4. 425 लीटर

Question ID : 264330155982

Option 1 ID : 264330611328

Option 2 ID : 264330611329

Option 3 ID : 264330611330

Option 4 ID : 264330611327

Status : Answered

Chosen Option : 3

Q.12 A, B से 25% अधिक है, और B, C से 40% कम है। यदि C, D से 20% अधिक है, तो A, D से कितने प्रतिशत कम है?

- Ans**
- 1. 15%
 - 2. 5%
 - 3. 10%
 - 4. 12%

Question ID : **264330156515**
Option 1 ID : **264330613448**
Option 2 ID : **264330613447**
Option 3 ID : **264330613449**
Option 4 ID : **264330613450**
Status : **Answered**
Chosen Option : **3**

Q.13 क्रमशः 6 cm, 8 cm और 10 cm त्रिज्याओं वाले धातु के गोलों को पिघलाकर एक ठोस गोला बनाया जाता है। परिणामी गोले की त्रिज्या (cm में) ज्ञात कीजिए।

- Ans**
- 1. 18
 - 2. 12
 - 3. 16
 - 4. 24

Question ID : **264330153865**
Option 1 ID : **264330602926**
Option 2 ID : **264330602923**
Option 3 ID : **264330602925**
Option 4 ID : **264330602924**
Status : **Answered**
Chosen Option : **2**

Q.14 ABC क्लब में 88% सदस्य पुरुष हैं और 12% सदस्य महिलाएं हैं। यदि पुरुषों की औसत आयु 25 वर्ष और महिलाओं की औसत आयु 50 वर्ष है, तो सभी सदस्यों की औसत आयु कितनी है?

- Ans**
- 1. 27
 - 2. 29
 - 3. 26
 - 4. 28

Question ID : **264330156211**
Option 1 ID : **264330612244**
Option 2 ID : **264330612246**
Option 3 ID : **264330612243**
Option 4 ID : **264330612245**
Status : **Answered**
Chosen Option : **4**

Q.15 किसी काम को पूरा करने में प्रदीप, संदीप से दोगुना कुशल है। एक साथ काम करते हुए, वे एक काम को 28 दिनों में पूरा कर सकते हैं। प्रदीप अकेले उस काम को कितने दिनों में पूरा कर सकता है?

- Ans**
- 1. 44
 - 2. 46
 - 3. 40
 - 4. 42

Question ID : 264330156235
Option 1 ID : 264330612341
Option 2 ID : 264330612342
Option 3 ID : 264330612339
Option 4 ID : 264330612340
Status : Answered
Chosen Option : 4

Q.16 10 वस्तुओं का विक्रय मूल्य 13 वस्तुओं के क्रय मूल्य के बराबर है। लाभ प्रतिशत क्या है?

- Ans**
- 1. 30%
 - 2. 25%
 - 3. 20%
 - 4. 40%

Question ID : 264330156518
Option 1 ID : 264330613460
Option 2 ID : 264330613462
Option 3 ID : 264330613459
Option 4 ID : 264330613461
Status : Answered
Chosen Option : 1

Q.17 नीचे दी गई तालिका वर्ष 2016 में आयु वर्ग के अनुसार एक कस्बे की कुल जनसंख्या के प्रतिशत को दर्शाती है।

Age Group (in years)	Per cent
up to 15	35
16-30	18.5
30-40	12.5
40-50	25.77
51 and above	8.23

संदर्भ : Age group (in years) - आयु वर्ग (वर्षों में), per cent- प्रतिशत, up to 15 – 15 वर्ष तक के, 51 and above – 51 वर्ष और उससे अधिक के

कस्बे में 40 वर्ष से कम आयु के 2200 बिलियन लोग हैं। 40-50 आयु वर्ग में कितने बिलियन लोग हैं?

- Ans**
- 1. 859
 - 2. 1167
 - 3. 417
 - 4. 274

Question ID : 264330153887
Option 1 ID : 264330603011
Option 2 ID : 264330603014
Option 3 ID : 264330603012
Option 4 ID : 264330603013
Status : Answered
Chosen Option : 1

Q.18 रेलगाड़ी A और B एक ही समय पर शुरू होती हैं। रेलगाड़ी A स्टेशन P से स्टेशन Q तक 50 km/h की चाल से यात्रा करती है और रेलगाड़ी B, स्टेशन Q से स्टेशन P तक 70 km/h की चाल से यात्रा करती है। वे एक-दूसरे को 1 घंटे 20 मिनट के बाद पार करती हैं। स्टेशन P और स्टेशन Q के बीच की दूरी (km में) कितनी है?

Ans ✓ 1. 160

✗ 2. 150

✗ 3. 140

✗ 4. 180

Question ID : 264330155970

Option 1 ID : 264330611280

Option 2 ID : 264330611282

Option 3 ID : 264330611279

Option 4 ID : 264330611281

Status : Answered

Chosen Option : 1

Q.19 56 और 14 के बीच का माध्यानुपाती ज्ञात कीजिए।

Ans ✓ 1. 28

✗ 2. 14

✗ 3. 35

✗ 4. 42

Question ID : 264330153877

Option 1 ID : 264330602973

Option 2 ID : 264330602971

Option 3 ID : 264330602972

Option 4 ID : 264330602974

Status : Answered

Chosen Option : 1

Q.20 चार क्रमागत विषम संख्याओं का औसत 58 है। सबसे छोटी संख्या कौन-सी है?

Ans ✗ 1. 53

✓ 2. 55

✗ 3. 57

✗ 4. 51

Question ID : 264330156252

Option 1 ID : 264330612408

Option 2 ID : 264330612409

Option 3 ID : 264330612410

Option 4 ID : 264330612407

Status : Answered

Chosen Option : 2

Q.1 यदि शब्द 'GRAPES' के प्रत्येक अक्षर को अंग्रेजी वर्णमाला के क्रम में व्यवस्थित किया जाए तो कितने अक्षरों का स्थान अपरिवर्तित रहेगा?

Ans

- ✓ 1. दो
- ✗ 2. चार
- ✗ 3. किसी का भी नहीं
- ✗ 4. एक

Question ID : 264330154321

Option 1 ID : 264330604749

Option 2 ID : 264330604747

Option 3 ID : 264330604748

Option 4 ID : 264330604750

Status : Answered

Chosen Option : 1

Q.2 नीचे दिए गए कथनों और निष्कर्षों को ध्यानपूर्वक पढ़िए। आपको मानना है कि दिए गए कथन सत्य हैं चाहे वे समान्यतः ज्ञात तथ्यों से अलग प्रतीत होते हों। आपको निश्चय करना है कि कौन-सा कौन-से निष्कर्ष तार्किक रूप से दिए गए कथनों के अनुसार है।

कथन: कुछ पेट, बिल्लियाँ हैं। सभी बिल्लियाँ, कुत्ते हैं। कुछ कुत्ते, केले हैं।

निष्कर्ष I: कुछ पेट, कुत्ते हैं।

निष्कर्ष II: कुछ बिल्लियाँ, केले हैं।

Ans

- ✗ 1. न तो निष्कर्ष (I) और न ही (II) कथनों के अनुसार है।
- ✗ 2. दोनों निष्कर्ष (I) और (II) कथनों के अनुसार हैं।
- ✗ 3. केवल निष्कर्ष (II) कथनों के अनुसार है।
- ✓ 4. केवल निष्कर्ष (I) कथनों के अनुसार है।

Question ID : 264330155917

Option 1 ID : 264330611073

Option 2 ID : 264330611074

Option 3 ID : 264330611072

Option 4 ID : 264330611071

Status : Answered

Chosen Option : 4

Q.3 यदि G का अर्थ -, A का अर्थ ×, D का अर्थ +, B का अर्थ = है, तो निम्नलिखित समीकरण में प्रश्न चिह्न (?) के स्थान पर क्या आएगा?
12 A 7 G 100 D 5 B 17 = ?

Ans

- ✗ 1. 37
- ✓ 2. 81
- ✗ 3. 93
- ✗ 4. 74

Question ID : 264330154687

Option 1 ID : 264330606213

Option 2 ID : 264330606212

Option 3 ID : 264330606214

Option 4 ID : 264330606211

Status : Answered

Chosen Option : 2

Q.4 एक निश्चित कूट भाषा में 'BLAME' को 'CMBNF' लिखा जाता है और 'CHANGE' को 'DIBOHF' लिखा जाता है। उस कूट भाषा में 'DESERT' को कैसे लिखा जाएगा?

- Ans
- 1. FHSGTV
 - 2. EFTFSU
 - 3. EGTGSV
 - 4. FGRFST

Question ID : 264330155808

Option 1 ID : 264330610636

Option 2 ID : 264330610638

Option 3 ID : 264330610635

Option 4 ID : 264330610637

Status : Answered

Chosen Option : 2

Q.5 उस समुच्चय को चुनिए जिसमें संख्याएँ ठीक उसी प्रकार संबंधित हैं जिस प्रकार निम्नलिखित समुच्चयों की संख्याएँ संबंधित हैं।

(ध्यान दें: संख्याओं को उनके घटक अंकों में अलग-अलग किए बिना, पूर्ण संख्याओं पर संक्रियाएँ की जानी चाहिए। उदा. 13 - संख्या 13 पर संक्रियाएँ जैसे 13 को जोड़ना/घटाना/गुणा करना आदि किया जा सकता है। 13 को 1 और 3 में अलग-अलग करने की और फिर 1 और 3 पर गणितीय संक्रियाएँ करने की अनुमति नहीं है।)

(14, 13, 32)

(21, 13, 39)

- Ans
- 1. 19, 12, 36
 - 2. 5, 19, 88
 - 3. 15, 7, 18
 - 4. 11, 14, 43

Question ID : 264330151609

Option 1 ID : 264330594064

Option 2 ID : 264330594065

Option 3 ID : 264330594066

Option 4 ID : 264330594063

Status : Answered

Chosen Option : 1

Q.6 दी गई श्रृंखला में प्रश्न चिन्ह '?' के स्थान पर क्या आना चाहिए?

7 28 91 280 ? 2548 7651

- Ans
- 1. 861
 - 2. 823
 - 3. 847
 - 4. 871

Question ID : 264330151484

Option 1 ID : 264330593565

Option 2 ID : 264330593563

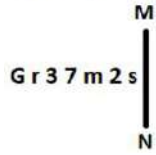
Option 3 ID : 264330593564

Option 4 ID : 264330593566

Status : Answered

Chosen Option : 3

Q.7 दी गई आकृति के उस सही दर्पण प्रतिबिंब को चुनिए, जो नीचे दर्शाए गए अनुसार दर्पण को MN पर रखने पर बनेगा।



- Ans
- 1. 2 5 m 7 8 1 G
 - 2. 2 5 m 7 8 1 0
 - 3. 2 s m 7 8 1 0
 - 4. 2 2 w 7 8 1 0

Question ID : 264330151529

Option 1 ID : 264330593745

Option 2 ID : 264330593746

Option 3 ID : 264330593743

Option 4 ID : 264330593744

Status : Answered

Chosen Option : 2

Q.8 दी गई श्रृंखला में प्रश्न चिन्ह '?' के स्थान पर क्या आना चाहिए?

11 39 123 375 1131 ?

- Ans
- 1. 3399
 - 2. 3499
 - 3. 3187
 - 4. 3417

Question ID : 264330151458

Option 1 ID : 264330593460

Option 2 ID : 264330593462

Option 3 ID : 264330593459

Option 4 ID : 264330593461

Status : Answered

Chosen Option : 1

Q.9 अंग्रेजी वर्णमाला क्रम के आधार पर दी गई श्रृंखला में प्रश्न चिह्न (?) के स्थान पर क्या आना चाहिए?

ESP, CRN, AQL, YPJ, ?

- Ans
- 1. YMG
 - 2. ZNG
 - 3. YNI
 - 4. WOH

Question ID : 264330155788

Option 1 ID : 264330610556

Option 2 ID : 264330610558

Option 3 ID : 264330610555

Option 4 ID : 264330610557

Status : Answered

Chosen Option : 4

Q.10 एक निश्चित तर्क के अनुसार 21, 86 से संबंधित है। समान तर्क के अनुसार, 33, 134 से संबंधित है। समान तर्क का अनुसरण करते हुए 25 निम्नलिखित में से किससे संबंधित है?

- Ans**
- ✓ 1. 102
 - ✗ 2. 103
 - ✗ 3. 100
 - ✗ 4. 101

Question ID : 264330151580

Option 1 ID : 264330593949

Option 2 ID : 264330593950

Option 3 ID : 264330593947

Option 4 ID : 264330593948

Status : Answered

Chosen Option : 1

Q.11 नीचे दिए गए कथन/कथनों और निष्कर्षों को ध्यानपूर्वक पढ़िए। आपको मानना है कि दिए गए कथन सत्य हैं चाहे वे समान्यतः ज्ञात तथ्यों से अलग प्रतीत होते हों। आपको निश्चय करना है कि कौन-सा/कौन-से निष्कर्ष तार्किक रूप से दिए गए कथन/कथनों के अनुसार है/हैं।

कथन: कुछ कुत्ते, चमगादड़ हैं। कुछ चमगादड़, बिल्लियां हैं।

निष्कर्ष:

(I) कुछ कुत्ते, बिल्लियां हैं।

(II) कुछ बिल्लियां, कुत्ते हैं।

- Ans**
- ✗ 1. दोनों निष्कर्ष (I) और (II) कथनों के अनुसार हैं।
 - ✗ 2. केवल निष्कर्ष (I) कथनों के अनुसार है।
 - ✓ 3. न तो निष्कर्ष (I) और न ही (II) कथनों के अनुसार है।
 - ✗ 4. केवल निष्कर्ष (II) कथनों के अनुसार है।

Question ID : 264330154428

Option 1 ID : 264330605178

Option 2 ID : 264330605175

Option 3 ID : 264330605177

Option 4 ID : 264330605176

Status : Answered

Chosen Option : 3

Q.12 यदि निम्नलिखित आकृति श्रृंखला को जारी रखना हो तो कौन-सी आकृति प्रश्न चिन्ह (?) के स्थान पर आनी चाहिए?

D	L	△	3	
N	L	P	P	D
△	L	3	P	P
3	△	N	3	D
			N	L
				D
				?

Ans

✗ 1.

	P	
N	L	3
D		△

✗ 2.

	P	
N	D	3
△		L

✗ 3.

	D	
N	P	△
3		L

✓ 4.

	N	
3	D	P
△		L

Question ID : 264330154756

Option 1 ID : 264330606490

Option 2 ID : 264330606489

Option 3 ID : 264330606487

Option 4 ID : 264330606488

Status : Answered

Chosen Option : 4

Q.13 दी गई श्रृंखला में प्रश्न चिह्न '?' के स्थान पर क्या आना चाहिए?

26 39 52 65 ? 91 104

Ans

✗ 1. 81

✗ 2. 79

✓ 3. 78

✗ 4. 80

Question ID : 264330151542

Option 1 ID : 264330593798

Option 2 ID : 264330593796

Option 3 ID : 264330593795

Option 4 ID : 264330593797

Status : Answered

Chosen Option : 3

Q.14 सात व्यक्ति, C, F, D, K, O, L और V एक सीधी पंक्ति में दक्षिण की ओर मुख करके बैठे हैं। V, F के दाईं ओर से दूसरे स्थान पर बैठा है। O के दाईं ओर केवल तीन व्यक्ति बैठे हैं। O और D का निकटतम पड़ोसी K है। L और V के बीच केवल तीन व्यक्ति बैठे हैं। F, L का निकटतम पड़ोसी नहीं है।

पंक्ति के सबसे बाईं ओर कौन बैठा है?

- Ans
- 1. C
 - 2. D
 - 3. F
 - 4. V

Question ID : 264330161698

Option 1 ID : 264330634121

Option 2 ID : 264330634119

Option 3 ID : 264330634120

Option 4 ID : 264330634122

Status : Answered

Chosen Option : 3

Q.15 यदि '+' और '-' को आपस में बदल दिया जाए तथा 'x' और '+' को आपस में बदल दिया जाए तो निम्नलिखित समीकरण में (?) के स्थान पर क्या आएगा?

$$3 \div 5 + 8 - 505 \times 5 = ?$$

- Ans
- 1. 104
 - 2. 106
 - 3. 108
 - 4. 102

Question ID : 264330154615

Option 1 ID : 264330605924

Option 2 ID : 264330605925

Option 3 ID : 264330605926

Option 4 ID : 264330605923

Status : Answered

Chosen Option : 3

Q.16 अक्षरों के उस संयोजन को चुनिए जिसे दी गई श्रृंखला के रिक्त स्थानों में क्रमिक रूप से रखने पर श्रृंखला पूरी हो जाएगी।

A _AA _AD _DA

- Ans
- 1. AADDA
 - 2. ADDAD
 - 3. DAADD
 - 4. DDAAA

Question ID : 264330151638

Option 1 ID : 264330594179

Option 2 ID : 264330594181

Option 3 ID : 264330594182

Option 4 ID : 264330594180

Status : Answered

Chosen Option : 4

Q.17 अंग्रेजी वर्णमाला क्रम के आधार पर BJTI, EMWL से एक निश्चित प्रकार से संबंधित है। उसी प्रकार, HDRL, KGUO से संबंधित है। समान तर्क का अनुसरण करते हुए, OCGM निम्नलिखित में से किससे संबंधित है?

- Ans**
- ✓ 1. RFJP
 - ✗ 2. SEKO
 - ✗ 3. QEIR
 - ✗ 4. RFIO

Question ID : 264330151668
Option 1 ID : 264330594300
Option 2 ID : 264330594301
Option 3 ID : 264330594299
Option 4 ID : 264330594302
Status : Answered
Chosen Option : 1

Q.18 अंग्रेजी वर्णमाला क्रम के आधार पर दी गई श्रृंखला में प्रश्न चिह्न (?) के स्थान पर क्या आना चाहिए?

NBX, MEW, LHV, KKV, ?

- Ans**
- ✗ 1. HNS
 - ✗ 2. IMR
 - ✗ 3. HMS
 - ✓ 4. JNT

Question ID : 264330155792
Option 1 ID : 264330610574
Option 2 ID : 264330610573
Option 3 ID : 264330610571
Option 4 ID : 264330610572
Status : Answered
Chosen Option : 4

Q.19 एक निश्चित कूट भाषा में, 'WHAT' को '5298' लिखा जाता है और 'THAN' को '9826' लिखा जाता है। उस कूट भाषा में 'W' को कैसे लिखा जाएगा?

- Ans**
- ✗ 1. 8
 - ✗ 2. 6
 - ✓ 3. 5
 - ✗ 4. 2

Question ID : 264330155869
Option 1 ID : 264330610880
Option 2 ID : 264330610881
Option 3 ID : 264330610882
Option 4 ID : 264330610879
Status : Answered
Chosen Option : 3

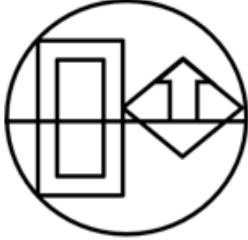
Q.20 उस विकल्प आकृति को चुनिए जिसमें दी गई आकृति (X) उसके भाग के रूप में निहित है। (घूर्णन की अनुमति नहीं है)



(X)

Ans

✗ 1.



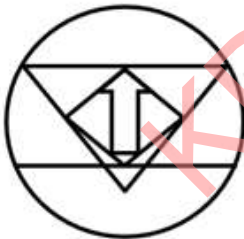
✗ 2.



✗ 3.



✓ 4.



Question ID : 264330151724

Option 1 ID : 264330594524

Option 2 ID : 264330594526

Option 3 ID : 264330594523

Option 4 ID : 264330594525

Status : Answered

Chosen Option : 4

Q.1 निम्नलिखित में से कौन-सा उपन्यास अपने लेखक के साथ सही ढंग से युग्मित है?

- Ans
- 1. ट्रेन टू पाकिस्तान - अमिताव घोष
 - 2. मालगुडी डेज़ - विक्रम सेठ
 - 3. द शैडो ऑफ़ लाइन्स – आर. के. नारायण
 - 4. द नेमसेक - झुम्पा लाहिड़ी

Question ID : 264330161758

Option 1 ID : 264330634359

Option 2 ID : 264330634361

Option 3 ID : 264330634360

Option 4 ID : 264330634362

Status : Answered

Chosen Option : 4

Q.2 भारत के किस शहर में महिला विश्व मुक्केबाजी चैम्पियनशिप 2023 का आयोजन किया गया?

- Ans
- 1. गोवा
 - 2. गुजरात
 - 3. नई दिल्ली
 - 4. पंजाब

Question ID : 264330158239

Option 1 ID : 264330620318

Option 2 ID : 264330620316

Option 3 ID : 264330620315

Option 4 ID : 264330620317

Status : Answered

Chosen Option : 1

Q.3 निम्नलिखित में से किस सुधारक ने सबसे पहले कलकत्ता में लड़कियों के लिए एक स्कूल स्थापित किया था?

- Ans
- 1. नारायण गुरु
 - 2. स्वामी दयानंद सरस्वती
 - 3. महात्मा फुले
 - 4. ईश्वर चंद्र विद्यासागर

Question ID : 264330160888

Option 1 ID : 264330630883

Option 2 ID : 264330630884

Option 3 ID : 264330630886

Option 4 ID : 264330630885

Status : Answered

Chosen Option : 4

Q.4 भारती शिवाजी और कनक रेले _____ के व्याख्याता हैं।

- Ans
- 1. मोहिनीअट्टम
 - 2. ओडिसी
 - 3. कथक
 - 4. मणिपुरी

Question ID : 264330160852

Option 1 ID : 264330630741

Option 2 ID : 264330630739

Option 3 ID : 264330630740

Option 4 ID : 264330630742

Status : Answered

Chosen Option : 4

Q.5 निम्नलिखित में से कौन-सा भारत में एक डाक व्यवहार का मार्ग (communication mail channel) है?

- Ans
- 1. रेड चैनल (Red channel)
 - 2. येलो चैनल (Yellow channel)
 - 3. पिंक चैनल (Pink channel)
 - 4. ग्रीन चैनल (Green channel)

Question ID : 264330160145
Option 1 ID : 264330627921
Option 2 ID : 264330627920
Option 3 ID : 264330627919
Option 4 ID : 264330627922
Status : Not Answered
Chosen Option : --

Q.6 भूटान में किस धर्म के अनुयायियों की संख्या सबसे अधिक है?

- Ans
- 1. हिंदू
 - 2. बौद्ध
 - 3. ईसाई
 - 4. इस्लाम

Question ID : 264330161564
Option 1 ID : 264330633586
Option 2 ID : 264330633584
Option 3 ID : 264330633585
Option 4 ID : 264330633583
Status : Answered
Chosen Option : 2

Q.7 कौन-से सूक्ष्म, एकल-कोशिका वाले प्रकाश संश्लेषक जीव समुद्र के प्राथमिक उत्पादक के रूप में जाने जाते हैं - वे जीव जो जलीय खाद्य श्रृंखलाओं का आधार बनाते हैं?

- Ans
- 1. विरियोप्लांकटन (Virioplankton)
 - 2. पादपप्लवक (Phytoplankton)
 - 3. प्राणिप्लवक (Zooplankton)
 - 4. बैक्टीरियोप्लांकटन (Bacterioplankton)

Question ID : 264330160993
Option 1 ID : 264330631306
Option 2 ID : 264330631304
Option 3 ID : 264330631305
Option 4 ID : 264330631303
Status : Answered
Chosen Option : 4

Q.8 वैयक्तिक आय के संबंध में अंतरण भुगतान के बारे में निम्नलिखित में से कौन-सा सत्य है?

- Ans
- 1. अंतरण भुगतान केवल व्यवसायों के लिए वैयक्तिक आय में शामिल हैं।
 - 2. अंतरण भुगतान का वैयक्तिक आय पर कोई प्रभाव नहीं पड़ता है।
 - 3. अंतरण भुगतान वैयक्तिक आय में शामिल हैं।
 - 4. अंतरण भुगतान को वैयक्तिक आय से बाहर रखा गया है।

Question ID : 264330157320
Option 1 ID : 264330616646
Option 2 ID : 264330616645
Option 3 ID : 264330616643
Option 4 ID : 264330616644
Status : Not Answered
Chosen Option : --

Q.9 सभी जैन त्योहारों में सबसे प्रसिद्ध, महामस्तकाभिषेक (Mahamastakabhisheka) हर 12 वर्ष में कर्नाटक के _____ में दिगंबर पवित्र परिसर में मनाया जाता है।

- Ans
- ✓ 1. श्रवणबेलगोला (Shravanabelagola)
 - ✗ 2. पुलियारमाला (Puliyarmala)
 - ✗ 3. जिननाथपुरा (Jinanathapura)
 - ✗ 4. कीलाकुइलकुडी (Keelakuilkudi)

Question ID : 264330161348
Option 1 ID : 264330632721
Option 2 ID : 264330632720
Option 3 ID : 264330632722
Option 4 ID : 264330632719
Status : Answered
Chosen Option : 1

Q.10 भारतीय महिला हॉकी टीम की पूर्व कप्तान _____ को भारतीय खेलों में उनके योगदान और खिलाड़ियों की पीढ़ियों को प्रेरित करने के लिए बीबीसी लाइफटाइम अचीवमेंट अवार्ड से सम्मानित किया गया।

- Ans
- ✓ 1. प्रीतम सिवाच
 - ✗ 2. वन्दना कटारिया
 - ✗ 3. रानी रामपाल
 - ✗ 4. सविता पुनिया

Question ID : 264330161436
Option 1 ID : 264330633071
Option 2 ID : 264330633073
Option 3 ID : 264330633074
Option 4 ID : 264330633072
Status : Answered
Chosen Option : 3

Q.11 निम्नलिखित नर्तकों में से किसका संबंध कथक के भारतीय शास्त्रीय नृत्य शैली से है?

- Ans
- ✗ 1. डॉ. कनक रेले
 - ✓ 2. पंडित बिरजू महाराज
 - ✗ 3. अमूबी सिंह
 - ✗ 4. डॉ. मिनती मिश्रा

Question ID : 264330155532
Option 1 ID : 264330609534
Option 2 ID : 264330609531
Option 3 ID : 264330609532
Option 4 ID : 264330609533
Status : Answered
Chosen Option : 2

Q.12 'भारतीय क्रांति की जननी' किसे माना जाता है?

- Ans
- 1. उषा मेहता (Usha Mehta)
 - 2. कस्तूरबा गांधी (Kasturba Gandhi)
 - 3. एनी बेसेंट (Annie Besant)
 - 4. मैडम कामा (Madame Cama)

Question ID : 264330162343
Option 1 ID : 264330636702
Option 2 ID : 264330636701
Option 3 ID : 264330636699
Option 4 ID : 264330636700
Status : Answered
Chosen Option : 4

Q.13 माधवपुर मेला _____ में आयोजित किया जाता है।

- Ans
- 1. मुरादाबाद
 - 2. जैसलमेर
 - 3. पोरबंदर
 - 4. भटिंडा

Question ID : 264330159085
Option 1 ID : 264330623699
Option 2 ID : 264330623702
Option 3 ID : 264330623701
Option 4 ID : 264330623700
Status : Answered
Chosen Option : 3

Q.14 निम्नलिखित में से कौन भरतनाट्यम और कथकली नर्तकी है?

- Ans
- 1. शोवना नारायण
 - 2. सोनल मानसिंह
 - 3. मृणालिनी साराभाई
 - 4. पद्मा सुब्रह्मण्यम

Question ID : 264330159065
Option 1 ID : 264330623620
Option 2 ID : 264330623621
Option 3 ID : 264330623619
Option 4 ID : 264330623622
Status : Answered
Chosen Option : 3

Q.15 भारत के संविधान का कौन-सा अनुच्छेद मौलिक अधिकारों को लागू करने के लिए सर्वोच्च न्यायालय में याचिका दायर के अधिकार की गारंटी देता है?

- Ans
- 1. अनुच्छेद 21
 - 2. अनुच्छेद 32
 - 3. अनुच्छेद 25
 - 4. अनुच्छेद 29

Question ID : 264330159918
Option 1 ID : 264330627019
Option 2 ID : 264330627022
Option 3 ID : 264330627020
Option 4 ID : 264330627021
Status : Answered
Chosen Option : 2

Q.16 ऑक्सीकृत पारे का सबसे आम अयस्क कौन-सा है जो ज्वालामुखी गतिविधि और उष्ण स्त्रोत (hot springs) से संबंधित दानेदार परतों या शिराओं (granular crusts or veins) में होता है?

- Ans
- 1. सिडेराइट (Siderite)
 - 2. कोरंडम (Corundum)
 - 3. सिनाबार (Cinnabar)
 - 4. डायस्पोर (Diaspore)

Question ID : 264330161402
Option 1 ID : 264330632935
Option 2 ID : 264330632937
Option 3 ID : 264330632938
Option 4 ID : 264330632936
Status : Answered
Chosen Option : 3

Q.17 भरहुत स्तूप निम्नलिखित में से किस राज्य में स्थित है?

- Ans
- 1. उत्तरप्रदेश
 - 2. बिहार
 - 3. पंजाब
 - 4. मध्यप्रदेश

Question ID : 264330160757
Option 1 ID : 264330630360
Option 2 ID : 264330630361
Option 3 ID : 264330630359
Option 4 ID : 264330630362
Status : Answered
Chosen Option : 1

Q.18 उस भौगोलिक विशेषता का क्या नाम है जो यूरोप और अफ्रीका के बीच सीमा का काम करती है?

- Ans
- 1. डार्डनेल्स जलडमरूमध्य (Dardanelles Strait)
 - 2. जिब्राल्टर जलडमरूमध्य (Strait of Gibraltar)
 - 3. मलक्का जलडमरूमध्य (Malacca Strait)
 - 4. बोस्पोरस जलडमरूमध्य (Bosporus Strait)

Question ID : 264330161327
Option 1 ID : 264330632638
Option 2 ID : 264330632635
Option 3 ID : 264330632637
Option 4 ID : 264330632636
Status : Answered
Chosen Option : 3

Q.19 निम्नलिखित में से 'सिलेक्शन डे' (Selection Day) पुस्तक के लेखक कौन हैं?

- Ans
- ✓ 1. अरविंद अडिगा
 - ✗ 2. चेतन भगत
 - ✗ 3. अमीश त्रिपाठी
 - ✗ 4. विक्रम सेठ

Question ID : 264330155456
Option 1 ID : 264330609227
Option 2 ID : 264330609230
Option 3 ID : 264330609229
Option 4 ID : 264330609228
Status : Answered
Chosen Option : 1

Q.20 भारत में 'महावत (Mahawat)' क्या है?

- Ans
- ✓ 1. सर्दी के मौसम के दौरान चक्रवाती वर्षा
 - ✗ 2. गर्मी के मौसम के दौरान गर्म और शुष्क हवाएं
 - ✗ 3. मानसून के मौसम में बादल फटना
 - ✗ 4. सर्दी के मौसम के दौरान शीत लहरें

Question ID : 264330161521
Option 1 ID : 264330633411
Option 2 ID : 264330633413
Option 3 ID : 264330633414
Option 4 ID : 264330633412
Status : Not Answered
Chosen Option : --

Q.21 निम्नलिखित में से किसे मुख्य रूप से हिंदुस्तानी शास्त्रीय संगीत का उस्ताद माना जाता है?

- Ans
- ✗ 1. मवेलिककारा प्रभाकर वर्मा (Mavelikkara Prabhakara Varma)
 - ✗ 2. संपागोडु विघ्नराज (Sampagodu Vighnaraja)
 - ✗ 3. साई विगनेश (Sai Vignesh)
 - ✓ 4. बड़े गुलाम अली खान (Bade Ghulam Ali Khan)

Question ID : 264330155473
Option 1 ID : 264330609296
Option 2 ID : 264330609297
Option 3 ID : 264330609298
Option 4 ID : 264330609295
Status : Answered
Chosen Option : 4

Q.22 भारत के संविधान का कौन-सा अनुच्छेद ग्राम पंचायत के गठन से संबंधित है?

- Ans
- 1. अनुच्छेद 36
 - 2. अनुच्छेद 38
 - 3. अनुच्छेद 40
 - 4. अनुच्छेद 45

Question ID : 264330159905

Option 1 ID : 264330626970

Option 2 ID : 264330626967

Option 3 ID : 264330626968

Option 4 ID : 264330626969

Status : Answered

Chosen Option : 3

Q.23 उज्ज्वल भारत उज्ज्वल भविष्य-पावर@2047 (Ujjwal Bharat Ujjwal Bhavishya–Power @ 2047) के अंतर्गत, प्रधानमंत्री ने तेलंगाना में निम्नलिखित में से किस 100 मेगावाट सौर परियोजना का उद्घाटन किया?

- Ans
- 1. रिन्यू सौर ऊर्जा संयंत्र (ReNew Solar Power Plant)
 - 2. जुराला सौर ऊर्जा संयंत्र (Jurala Solar Power Plant)
 - 3. धर्मरावपेट सौर ऊर्जा संयंत्र (Dharmaraopet Solar Power Plant)
 - 4. रामागुंडम फ्लोटिंग सोलर प्रोजेक्ट(Ramagundam Floating Solar Project)

Question ID : 264330161406

Option 1 ID : 264330632951

Option 2 ID : 264330632953

Option 3 ID : 264330632952

Option 4 ID : 264330632954

Status : Answered

Chosen Option : 4

Q.24 भारत में आयोजित 2023 विश्व स्क्वैश चैंपियनशिप (2023 World Squash Championships) का उद्घाटन किसने किया?

- Ans
- 1. के. एन. नेहरू
 - 2. उदयनिधि स्टालिन
 - 3. ई. वी. वेलु
 - 4. के. पोनमुडी

Question ID : 264330161128

Option 1 ID : 264330631843

Option 2 ID : 264330631844

Option 3 ID : 264330631845

Option 4 ID : 264330631846

Status : Answered

Chosen Option : 2

Q.25 भारत में सूक्ष्म वित्त संस्थान (MFIs) का प्राथमिक उद्देश्य क्या है?

- Ans 1. कम आय वाले व्यक्तियों को छोटे ऋण प्रदान करना
 2. भारतीय अर्थव्यवस्था में विदेशी निवेश को सुविधाजनक बनाना
 3. मध्यमवर्गीय परिवारों के बीच उपभोक्ता व्यय को बढ़ावा देना
 4. बड़े व्यवसायों को विशेष रूप से वित्तीय सेवाएं प्रदान करना

Question ID : 264330157289

Option 1 ID : 264330616519

Option 2 ID : 264330616522

Option 3 ID : 264330616521

Option 4 ID : 264330616520

Status : Answered

Chosen Option : 1

Section : English Language and Comprehension

Q.1 Select the option that can be used as a one-word substitute for the given group of words.

Unpleasant

- Ans 1. Nasty
 2. Nebulous
 3. Negligible
 4. Natal

Question ID : 264330151909

Option 1 ID : 264330595252

Option 2 ID : 264330595253

Option 3 ID : 264330595254

Option 4 ID : 264330595251

Status : Answered

Chosen Option : 1

Q.2 Select the INCORRECTLY spelt word.

- Ans 1. Recommend
 2. Tomorrow
 3. Irresistable
 4. Parallel

Question ID : 264330152645

Option 1 ID : 264330598183

Option 2 ID : 264330598184

Option 3 ID : 264330598186

Option 4 ID : 264330598185

Status : Answered

Chosen Option : 2

Q.3 The following sentence has been split into four segments. Identify the segment that contains a grammatical error.

I want to / give you / an information about / the missing necklace.

- Ans
- 1. the missing necklace
 - 2. I want to
 - 3. an information about
 - 4. give you

Question ID : 264330153420

Option 1 ID : 264330601214

Option 2 ID : 264330601211

Option 3 ID : 264330601213

Option 4 ID : 264330601212

Status : Answered

Chosen Option : 2

Q.4 Select the most appropriate option that can substitute the underlined segment in the following sentence.

She proposed to write the life history of the famous poet.

- Ans
- 1. novel
 - 2. mythology
 - 3. autobiography
 - 4. biography

Question ID : 264330152632

Option 1 ID : 264330598134

Option 2 ID : 264330598133

Option 3 ID : 264330598131

Option 4 ID : 264330598132

Status : Answered

Chosen Option : 4

Q.5 Identify the most appropriate meaning of the given word.
Ancient

- Ans
- 1. Antique
 - 2. Unworn
 - 3. Contemporary
 - 4. Recent

Question ID : 264330152573

Option 1 ID : 264330597895

Option 2 ID : 264330597897

Option 3 ID : 264330597896

Option 4 ID : 264330597898

Status : Answered

Chosen Option : 1

Q.6 Select the option that can be used as a one-word substitute for the given group of words.

Killing of one's own father

Ans ✓ 1. Patricide

✗ 2. Suicide

✗ 3. Matricide

✗ 4. Filicide

Question ID : 264330151813

Option 1 ID : 264330594880

Option 2 ID : 264330594882

Option 3 ID : 264330594879

Option 4 ID : 264330594881

Status : Answered

Chosen Option : 1

Q.7 The following sentence has been divided into four parts. Identify the part that contains an error.

(A) The mother exclaimed / (B) when she saw her son / (C) stumble on the race track, / (D) "Look, he falls!"

Ans ✗ 1. A

✗ 2. B

✗ 3. C

✓ 4. D

Question ID : 264330152629

Option 1 ID : 264330598120

Option 2 ID : 264330598122

Option 3 ID : 264330598121

Option 4 ID : 264330598119

Status : Answered

Chosen Option : 4

Q.8 The sentence given below has spelling errors. Select the sentence without spelling errors.

Though we read and hear a lot on green initiative, we hardly tweak our routines to suite the larger picture.

Ans ✗ 1. Though we read and hear a lot on green initiatives, we hardly tweak our routines to suite the larger picture.

✓ 2. Though we read and hear a lot on green initiatives, we hardly tweak our routines to suit the larger picture.

✗ 3. Though we read and hear a lot on green initiatives, we hardly tweek our routines to suite the larger picture.

✗ 4. Though we read and hear a lot on green iniciatives, we hardly tweak our routines to suite the larger picture.

Question ID : 264330153221

Option 1 ID : 264330600444

Option 2 ID : 264330600443

Option 3 ID : 264330600446

Option 4 ID : 264330600445

Status : Answered

Chosen Option : 2

Q.9 Select the most appropriate meaning of the underlined idiom in the following sentence.

After having invested so much time and energy into the project, we are now back to square one.

- Ans
- 1. Not ready for the consequence
 - 2. In the same city
 - 3. Fighting with each other
 - 4. Having to start all over again

Question ID : 264330153049

Option 1 ID : 264330599766

Option 2 ID : 264330599763

Option 3 ID : 264330599765

Option 4 ID : 264330599764

Status : Answered

Chosen Option : 4

Q.10 Select the most appropriate synonym of the bracketed word in the following sentence to fill in the blank.

The athlete's injury was a _____ (defeat) for the team's chances of winning the championship.

- Ans
- 1. progression
 - 2. breakthrough
 - 3. stress
 - 4. setback

Question ID : 264330152651

Option 1 ID : 264330598209

Option 2 ID : 264330598208

Option 3 ID : 264330598210

Option 4 ID : 264330598207

Status : Answered

Chosen Option : 4

Q.11 Select the most appropriate option that can substitute the underlined segment in the given sentence.

To preparing the vine for plant, it should be cut back to 2 ft.

- Ans
- 1. prepares in vine in plant
 - 2. prepare a vine in planting
 - 3. prepared the vine of plant
 - 4. prepare the vine for planting

Question ID : 264330153484

Option 1 ID : 264330601451

Option 2 ID : 264330601453

Option 3 ID : 264330601454

Option 4 ID : 264330601452

Status : Answered

Chosen Option : 4

Q.12 Select the most appropriate option that can substitute the underlined segment in the given sentence.

They are sell their company's products to people.

- Ans
- 1. was sell the company's
 - 2. are sell the company
 - 3. are selling their company's
 - 4. is selling they company's

Question ID : 264330153474
Option 1 ID : 264330601412
Option 2 ID : 264330601414
Option 3 ID : 264330601413
Option 4 ID : 264330601411
Status : Answered
Chosen Option : 3

Q.13 Select the correctly spelt word.

- Ans
- 1. Millennium
 - 2. Milennium
 - 3. Milenium
 - 4. Millenum

Question ID : 264330152963
Option 1 ID : 264330599427
Option 2 ID : 264330599428
Option 3 ID : 264330599430
Option 4 ID : 264330599429
Status : Answered
Chosen Option : 4

Q.14 Select the most appropriate ANTONYM of the word given in brackets to fill in the blank.

The student provided her English teacher a short and _____ (incoherent) account of her journey to Shimla with her parents.

- Ans
- 1. rough
 - 2. genuine
 - 3. humble
 - 4. lucid

Question ID : 264330152698
Option 1 ID : 264330598396
Option 2 ID : 264330598397
Option 3 ID : 264330598395
Option 4 ID : 264330598398
Status : Answered
Chosen Option : 3

Q.15 Select the most appropriate meaning of the given idiom.
Get your act together

- Ans
- 1. To stay together
 - 2. To have patience
 - 3. To act in a play
 - 4. Get organised and do things better

Question ID : 264330152726
Option 1 ID : 264330598506
Option 2 ID : 264330598504
Option 3 ID : 264330598503
Option 4 ID : 264330598505
Status : Answered
Chosen Option : 1

Q.16 Select the most appropriate idiom to fill in the blank.
By living in a rural area with access to the city, she gets _____.

- Ans
- 1. the best of both worlds
 - 2. to keep an ear to the ground
 - 3. in for a penny in for a pound
 - 4. on cloud nine

Question ID : 264330151890
Option 1 ID : 264330595180
Option 2 ID : 264330595181
Option 3 ID : 264330595182
Option 4 ID : 264330595179
Status : Answered
Chosen Option : 3

Q.17 Select the most appropriate option that can rectify the underlined segment in the given sentence. If there is no need to rectify it, select 'no rectification needed'.

The conductor said that it was the worse quake he ever knew.

- Ans
- 1. no rectification needed
 - 2. worst
 - 3. bad
 - 4. more bad

Question ID : 264330153466
Option 1 ID : 264330601382
Option 2 ID : 264330601381
Option 3 ID : 264330601379
Option 4 ID : 264330601380
Status : Answered
Chosen Option : 2

Q.18 Select the most appropriate meaning of the underlined idiom.
Mary is a ball of fire and is always engaged in something creative.

- Ans
- 1. A dull and insipid person
 - 2. To be good and beneficial for someone
 - 3. A talkative person
 - 4. An active and energetic person

Question ID : 264330151831
Option 1 ID : 264330594951
Option 2 ID : 264330594953
Option 3 ID : 264330594954
Option 4 ID : 264330594952
Status : Answered
Chosen Option : 4

Q.19 Select the most appropriate option that can substitute the underlined segment in the given sentence.

The cats food bowl was empty, so he meowed incessantly until his owner finally filled it with fresh kibble.

- Ans
- 1. The cat's
 - 2. A cats'
 - 3. A cat's
 - 4. The cats'

Question ID : 264330151856
Option 1 ID : 264330595045
Option 2 ID : 264330595046
Option 3 ID : 264330595044
Option 4 ID : 264330595043
Status : Answered
Chosen Option : 1

Q.20 Parts of the following sentence have been given as options. Select the option that contains an error.

Existentialism has a reputation for being angst-ridden and gloomy mostly because of its emphasis on pondering the meaningless of existence.

- Ans
- 1. on pondering the meaningless of existence
 - 2. for being angst-ridden and gloomy
 - 3. Existentialism has a reputation
 - 4. mostly because of its emphasis

Question ID : 264330153605
Option 1 ID : 264330601906
Option 2 ID : 264330601904
Option 3 ID : 264330601903
Option 4 ID : 264330601905
Status : Answered
Chosen Option : 4

Comprehension:

In the following passage, some words have been deleted. Read the passage carefully and select the most appropriate option to fill in each blank.

Democracy is a form of government where the power lies _____(1) the people. It is based on the principles of equality, freedom and the rule of law. In a democratic society, _____(2) have the right to participate in the decision-making process, _____(3) directly or through elected representatives. Democracy also allows for the _____(4) of individual rights and liberties. While democracy is not without its challenges, such as the need to balance competing interests and the risk of _____(5) movements, it remains one of the most widely embraced forms of government around the world.

SubQuestion No : 21

Q.21 Select the most appropriate option to fill in blank no. 1.

- Ans 1. with
 2. by
 3. on
 4. towards

Question ID : 264330151893

Option 1 ID : 264330595190

Option 2 ID : 264330595189

Option 3 ID : 264330595187

Option 4 ID : 264330595188

Status : Answered

Chosen Option : 3

Comprehension:

In the following passage, some words have been deleted. Read the passage carefully and select the most appropriate option to fill in each blank.

Democracy is a form of government where the power lies _____(1) the people. It is based on the principles of equality, freedom and the rule of law. In a democratic society, _____(2) have the right to participate in the decision-making process, _____(3) directly or through elected representatives. Democracy also allows for the _____(4) of individual rights and liberties. While democracy is not without its challenges, such as the need to balance competing interests and the risk of _____(5) movements, it remains one of the most widely embraced forms of government around the world.

SubQuestion No : 22

Q.22 Select the most appropriate option to fill in blank no. 2.

- Ans 1. humans
 2. citizens
 3. lawyers
 4. politicians

Question ID : 264330151894

Option 1 ID : 264330595194

Option 2 ID : 264330595192

Option 3 ID : 264330595193

Option 4 ID : 264330595191

Status : Answered

Chosen Option : 2

Comprehension:

In the following passage, some words have been deleted. Read the passage carefully and select the most appropriate option to fill in each blank.

Democracy is a form of government where the power lies _____(1) the people. It is based on the principles of equality, freedom and the rule of law. In a democratic society, _____(2) have the right to participate in the decision-making process, _____(3) directly or through elected representatives. Democracy also allows for the _____(4) of individual rights and liberties. While democracy is not without its challenges, such as the need to balance competing interests and the risk of _____(5) movements, it remains one of the most widely embraced forms of government around the world.

SubQuestion No : 23

Q.23 Select the most appropriate option to fill in blank no. 3.

- Ans
- 1. neither
 - 2. however
 - 3. also
 - 4. either

Question ID : 264330151895

Option 1 ID : 264330595198

Option 2 ID : 264330595197

Option 3 ID : 264330595195

Option 4 ID : 264330595196

Status : Answered

Chosen Option : 4

Comprehension:

In the following passage, some words have been deleted. Read the passage carefully and select the most appropriate option to fill in each blank.

Democracy is a form of government where the power lies _____(1) the people. It is based on the principles of equality, freedom and the rule of law. In a democratic society, _____(2) have the right to participate in the decision-making process, _____(3) directly or through elected representatives. Democracy also allows for the _____(4) of individual rights and liberties. While democracy is not without its challenges, such as the need to balance competing interests and the risk of _____(5) movements, it remains one of the most widely embraced forms of government around the world.

SubQuestion No : 24

Q.24 Select the most appropriate option to fill in blank no. 4.

- Ans
- 1. diversion
 - 2. protection
 - 3. proscription
 - 4. delimitation

Question ID : 264330151896

Option 1 ID : 264330595202

Option 2 ID : 264330595199

Option 3 ID : 264330595201

Option 4 ID : 264330595200

Status : Answered

Chosen Option : 2

Comprehension:

In the following passage, some words have been deleted. Read the passage carefully and select the most appropriate option to fill in each blank.

Democracy is a form of government where the power lies _____(1) the people. It is based on the principles of equality, freedom and the rule of law. In a democratic society, _____(2) have the right to participate in the decision-making process, _____(3) directly or through elected representatives. Democracy also allows for the _____(4) of individual rights and liberties. While democracy is not without its challenges, such as the need to balance competing interests and the risk of _____(5) movements, it remains one of the most widely embraced forms of government around the world.

SubQuestion No : 25

Q.25 Select the most appropriate option to fill in blank no. 5.

- Ans 1. elitist
 2. marginal
 3. negligible
 4. populist

Question ID : 264330151897

Option 1 ID : 264330595203

Option 2 ID : 264330595204

Option 3 ID : 264330595205

Option 4 ID : 264330595206

Status : Answered

Chosen Option : 3

KD Job Updates

Multi Tasking Non Technical Staff and Havaladar CBIC and CBN Examination 2023

Roll Number	KD Job Updates
Candidate Name	KD Job Updates
Venue Name	iON Digital Zone iDZ Purnea
Exam Date	06/09/2023
Exam Time	4:00 PM - 6:00 PM
Subject	MTS Non Tech Havaladar CBIC and CBN Examination 2023

Section : Numerical and Mathematical Ability

Q.1 एक घनाभ के तीन आसन्न फलकों का क्षेत्रफल क्रमशः p, q और r unit²(इकाई²) है। इसका आयतन कितना है?

- Ans
- 1. $\sqrt[3]{pqr}$ unit³
 - 2. $p^3q^3r^3$ unit³
 - 3. pqr unit³
 - 4. \sqrt{pqr} unit³

Question ID : 264330154139

Option 1 ID : 264330604019

Option 2 ID : 264330604022

Option 3 ID : 264330604020

Option 4 ID : 264330604021

Status : Answered

Chosen Option : 4

Q.2 46 और 99 के बीच अभाज्य संख्याओं का औसत क्या है? दशमलव के दो स्थानों तक सही।

- Ans
- 1. 72.80
 - 2. 80.27
 - 3. 82.70
 - 4. 70.82

Question ID : 264330156545

Option 1 ID : 264330613569

Option 2 ID : 264330613567

Option 3 ID : 264330613570

Option 4 ID : 264330613568

Status : Answered

Chosen Option : 4

Q.3 निम्नलिखित वृत्त आलेख में एक कॉलेज में अलग-अलग पाठ्यक्रमों में पढ़ने वाले विद्यार्थियों के प्रतिशत को दर्शाया गया है।

बीबीए में पढ़ने वाले विद्यार्थियों के लिए कोण की डिग्री माप कितनी है?



संदर्भ: B.Tech - बीटेक, BA - बीए, BBA - बीबीए, BCA - बीसीए, B.Com - बी.कॉम, B.Sc - बी.एससी

- Ans
- 1. 36°
 - 2. 32°
 - 3. 48.8°
 - 4. 28.8°

Question ID : 264330154068
Option 1 ID : 264330603736
Option 2 ID : 264330603735
Option 3 ID : 264330603738
Option 4 ID : 264330603737
Status : Answered
Chosen Option : 4

Q.4 सरल कीजिए।

$$(15 \div 3) \div 5 + (18 \div 9) \times 3 + (24 \div 6) \times (5 \div 4) = ?$$

- Ans
- 1. 1
 - 2. 12
 - 3. 16
 - 4. 21

Question ID : 264330156427
Option 1 ID : 264330613099
Option 2 ID : 264330613102
Option 3 ID : 264330613101
Option 4 ID : 264330613100
Status : Answered
Chosen Option : 2

Q.5 नीचे दी गई तालिका में वर्ष 2022 में जनवरी से जून तक पांच अलग-अलग कंपनियों द्वारा ट्रांसफार्मर के उत्पादन को दर्शाया गया है। तालिका का ध्यानपूर्वक अध्ययन कीजिए और नीचे दिए गए प्रश्न का उत्तर दीजिए।

माह/कंपनी	P	Q	R	S	T
जनवरी	145	140	177	163	140
फरवरी	178	122	179	188	187
मार्च	185	135	160	130	145
अप्रैल	150	130	169	148	172
मई	146	128	180	137	153
जून	128	145	195	148	170

जनवरी से जून के महीने तक Q और R कंपनियों के कुल उत्पादन के बीच कितना अंतर है?

- Ans
- 1. 283
 - 2. 263
 - 3. 260
 - 4. 280

Question ID : 264330156572

Option 1 ID : 264330613678

Option 2 ID : 264330613676

Option 3 ID : 264330613675

Option 4 ID : 264330613677

Status : Answered

Chosen Option : 3

Q.6 P, Q और R एक काम को क्रमशः 6 दिन, 12 दिन और 15 दिन में पूरा कर सकते हैं। P अकेले पहले, चौथे, सातवें ... दिन काम करना शुरू करता है, Q अकेले दूसरे, पांचवें, आठवें... दिन काम करता है और R अकेले तीसरे, छठे, नौवें...दिन काम करता है। यह पैटर्न काम पूरा होने तक जारी रहता है। पूरा काम कितने समय (दिनों में) में किया जाता है?

- Ans
- 1. $9\frac{1}{2}$
 - 2. $10\frac{1}{2}$
 - 3. $9\frac{3}{10}$
 - 4. $10\frac{3}{5}$

Question ID : 264330153778

Option 1 ID : 264330602575

Option 2 ID : 264330602578

Option 3 ID : 264330602576

Option 4 ID : 264330602577

Status : Answered

Chosen Option : 3

Q.7 यदि $a : b = 3 : 2$ और $b : c = 5 : 4$, तो $a : b : c$ का मान _____ है।

- Ans
- 1. 15 : 10 : 8
 - 2. 7 : 10 : 15
 - 3. 8 : 10 : 15
 - 4. 11 : 8 : 10

Question ID : 264330154082

Option 1 ID : 264330603794

Option 2 ID : 264330603793

Option 3 ID : 264330603792

Option 4 ID : 264330603791

Status : Answered

Chosen Option : 1

Q.8 एक व्यक्ति की आय में पहले 25% की वृद्धि होती है और फिर उसमें 25% की कमी की जाती है। नई आय, मूल आय का कितना % है?

- Ans
- 1. $91\frac{1}{4}\%$
 - 2. $95\frac{3}{4}\%$
 - 3. $92\frac{1}{4}\%$
 - 4. $93\frac{3}{4}\%$

Question ID : 264330156819

Option 1 ID : 264330614654

Option 2 ID : 264330614652

Option 3 ID : 264330614651

Option 4 ID : 264330614653

Status : Answered

Chosen Option : 4

Q.9 8% वार्षिक दर से निवेश की गई कितनी धनराशि $1\frac{1}{2}$ वर्षों में, अर्ध-वार्षिक रूप से संयोजित होकर ₹17,576 हो जाएगी?

- Ans
- 1. ₹ 15,625
 - 2. ₹ 15,525
 - 3. ₹ 15,000
 - 4. ₹ 16,500

Question ID : 264330156079

Option 1 ID : 264330611717

Option 2 ID : 264330611718

Option 3 ID : 264330611716

Option 4 ID : 264330611715

Status : Answered

Chosen Option : 1

Q.10 ₹34 प्रति किलोग्राम वाले गेहूं को ₹26 प्रति किलोग्राम वाले गेहूं के साथ किस अनुपात में मिलाया जाना चाहिए ताकि मिश्रण को ₹36 प्रति किलोग्राम के मूल्य पर बेचने पर 20% का लाभ हो?

- Ans
- 1. 1 : 2
 - 2. 1 : 1
 - 3. 3 : 4
 - 4. 2 : 3

Question ID : 264330156511

Option 1 ID : 264330613431

Option 2 ID : 264330613434

Option 3 ID : 264330613433

Option 4 ID : 264330613432

Status : Not Answered

Chosen Option : --

Q.11 सोनम 5 घंटे में 230 km की दूरी तय करती है। वह 9 घंटे में कितनी दूरी (km में) तय करेगी?

- Ans
- 1. 454
 - 2. 484
 - 3. 424
 - 4. 414

Question ID : 264330155750
Option 1 ID : 264330610404
Option 2 ID : 264330610403
Option 3 ID : 264330610405
Option 4 ID : 264330610406
Status : Answered
Chosen Option : 4

Q.12 यदि $A : B = \frac{1}{3} : \frac{1}{5}$, $B : C = \frac{1}{7} : \frac{1}{8}$ और $C : D = \frac{1}{10} : \frac{1}{21}$, तो $A : B : C : D$ का मान _____ है।

- Ans
- 1. 40 : 24 : 21 : 10
 - 2. 14 : 24 : 28 : 10
 - 3. 8 : 3 : 7 : 5
 - 4. 48 : 23 : 25 : 8

Question ID : 264330154083
Option 1 ID : 264330603798
Option 2 ID : 264330603796
Option 3 ID : 264330603797
Option 4 ID : 264330603795
Status : Answered
Chosen Option : 1

Q.13 2 वर्षों में ₹24,000 पर देय धनराशि क्या होगी जब क्रमिक वर्षों में साधारण ब्याज की दर क्रमशः 4% वार्षिक और 5% वार्षिक है?

- Ans
- 1. ₹26,160
 - 2. ₹26,208
 - 3. ₹24,960
 - 4. ₹25,200

Question ID : 264330159035
Option 1 ID : 264330623501
Option 2 ID : 264330623499
Option 3 ID : 264330623500
Option 4 ID : 264330623502
Status : Answered
Chosen Option : 1

Q.14 एक पुलिसकर्मी 98 m की दूरी से एक चोर को देखता है। चोर भागने लगता है और पुलिसकर्मी उसका पीछा करता है। चोर और पुलिसकर्मी क्रमशः 90 km/h और 118.8 km/h की चाल से भागते हैं। पुलिसकर्मी द्वारा चोर को पकड़ने में कितना समय लगेगा?

- Ans
- 1. $10\frac{1}{2}$ sec
 - 2. $14\frac{1}{4}$ sec
 - 3. $13\frac{1}{4}$ sec
 - 4. $12\frac{1}{4}$ sec

Question ID : 264330154091

Option 1 ID : 264330603827

Option 2 ID : 264330603830

Option 3 ID : 264330603828

Option 4 ID : 264330603829

Status : Answered

Chosen Option : 4

Q.15 वह सबसे छोटी संख्या ज्ञात कीजिए जिसे 19, 36 और 54 से भाग देने पर प्रत्येक स्थिति में 4 शेषफल बचता है।

- Ans
- 1. 1854
 - 2. 2056
 - 3. 2172
 - 4. 1925

Question ID : 264330155723

Option 1 ID : 264330610295

Option 2 ID : 264330610297

Option 3 ID : 264330610298

Option 4 ID : 264330610296

Status : Answered

Chosen Option : 2

Q.16 In April, Mr. Khan observed that his balance in his bank account is ₹5,600 for the first 24 days, ₹12,000 for the next two days and ₹37,500 in the last 4 days of the month. What is his daily average balance for April?

- Ans
- 1. ₹10,280
 - 2. ₹14,280
 - 3. ₹15,280
 - 4. ₹10,480

Question ID : 264330154117

Option 1 ID : 264330603933

Option 2 ID : 264330603932

Option 3 ID : 264330603931

Option 4 ID : 264330603934

Status : Answered

Chosen Option : 1

Q.17 कविता ने एक मेज उसके मूल मूल्य पर 30% की छूट पर खरीदी। उसने इसे खरीदे गए मूल्य पर 48% की वृद्धि के साथ बेच दिया। नए बिक्री मूल्य और मूल मूल्य के बीच प्रतिशत अंतर कितना है, साथ ही यदि मूल मूल्य ₹8,000 है, तो कविता को लाभ के रूप में कितनी अतिरिक्त धनराशि प्राप्त हुई?

- Ans**
- ✓ 1. 3.6%; ₹288
 - ✗ 2. 4.5%; ₹308
 - ✗ 3. 5.6%; ₹280
 - ✗ 4. 6%; ₹360

Question ID : 264330156182
Option 1 ID : 264330612129
Option 2 ID : 264330612128
Option 3 ID : 264330612127
Option 4 ID : 264330612130
Status : Not Answered
Chosen Option : --

Q.18 असलम एक काम को 20 दिनों में और बंसी 30 दिनों में कर सकता है। यदि वे इस पर साथ मिलकर 5 दिनों तक काम करते हैं, तो शेष कार्य का कितना अंश रह गया?

- Ans**
- ✗ 1. $\frac{7}{13}$
 - ✗ 2. $\frac{5}{12}$
 - ✗ 3. $\frac{11}{12}$
 - ✓ 4. $\frac{7}{12}$

Question ID : 264330156115
Option 1 ID : 264330611862
Option 2 ID : 264330611859
Option 3 ID : 264330611860
Option 4 ID : 264330611861
Status : Answered
Chosen Option : 4

Q.19 3 cm भुजा वाले एक घन को पिघलाकर प्रत्येक 1 cm भुजा वाले छोटे-छोटे घन बनाए जाते हैं। ऐसे कितने घन बनाए जा सकते हैं?

- Ans**
- ✓ 1. 27
 - ✗ 2. 72
 - ✗ 3. 8
 - ✗ 4. 64

Question ID : 264330156085
Option 1 ID : 264330611739
Option 2 ID : 264330611742
Option 3 ID : 264330611740
Option 4 ID : 264330611741
Status : Answered
Chosen Option : 1

Q.20 एक वस्तु के क्रय मूल्य और विक्रय मूल्य का अनुपात 186 : 206 है। वस्तु पर लाभ प्रतिशत क्या है?

- Ans
- 1. $12\frac{50}{93}$
 - 2. $10\frac{50}{93}$
 - 3. $10\frac{70}{93}$
 - 4. $12\frac{70}{93}$

Question ID : 264330155960

Option 1 ID : 264330611239

Option 2 ID : 264330611241

Option 3 ID : 264330611242

Option 4 ID : 264330611240

Status : Answered

Chosen Option : 2

Section : Reasoning Ability and Problem Solving

Q.1 अंग्रेजी वर्णमाला क्रम के आधार पर दी गई श्रृंखला में प्रश्न चिह्न (?) के स्थान पर क्या आना चाहिए?

HWC, KUD, NSE, QQF, ?

- Ans
- 1. ROF
 - 2. RMH
 - 3. TOG
 - 4. SNH

Question ID : 264330155803

Option 1 ID : 264330610618

Option 2 ID : 264330610617

Option 3 ID : 264330610615

Option 4 ID : 264330610616

Status : Answered

Chosen Option : 3

Q.2 उस विकल्प आकृति को चुनिए जिसमें दी गई आकृति (X) उसके भाग के रूप में निहित है।
(घूर्णन की अनुमति नहीं है)



(X)

Ans

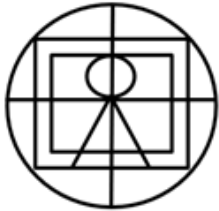
✗ 1.



✗ 2.



✗ 3.



✓ 4.



KD Job Updates

Question ID : 264330151728

Option 1 ID : 264330594542

Option 2 ID : 264330594541

Option 3 ID : 264330594540

Option 4 ID : 264330594539

Status : Answered

Chosen Option : 4

Q.3 यदि '+' और '-' को आपस में बदल दिया जाए तथा 'x' और '÷' को आपस में बदल दिया जाए तो निम्नलिखित समीकरण में (?) के स्थान पर क्या आएगा?
 $321 \times 3 + 81 - 12 \div 8 = ?$

Ans ✓ 1. 122

✗ 2. 142

✗ 3. 112

✗ 4. 132

Question ID : 264330155672

Option 1 ID : 264330610091

Option 2 ID : 264330610093

Option 3 ID : 264330610094

Option 4 ID : 264330610092

Status : Answered

Chosen Option : 1

Q.4 नीचे दिए गए कथनों और निष्कर्षों को ध्यानपूर्वक पढ़िए। आपको मानना है कि दिए गए कथन सत्य हैं चाहे वे समान्यतः ज्ञात तथ्यों से अलग प्रतीत होते हों। आपको निश्चय करना है कि कौन-सा/कौन-से निष्कर्ष तार्किक रूप से दिए गए कथनों के अनुसार है/हैं।

कथन: कुछ बल्ले, पर्दे हैं। सभी पर्दे, पीले हैं। सभी पीले, कलमें हैं।

निष्कर्ष I: सभी पीले, पर्दे हैं।
निष्कर्ष II: कुछ कलमें, पर्दे हैं।

- Ans**
- 1. न तो निष्कर्ष (I) और न ही (II) कथनों के अनुसार है।
 - 2. केवल निष्कर्ष (I) कथनों के अनुसार है।
 - 3. केवल निष्कर्ष (II) कथनों के अनुसार है।
 - 4. दोनों निष्कर्ष (I) और (II) कथनों के अनुसार हैं।

Question ID : 264330155910

Option 1 ID : 264330611045

Option 2 ID : 264330611043

Option 3 ID : 264330611044

Option 4 ID : 264330611046

Status : Answered

Chosen Option : 3

Q.5 R, S, T, U, V, W, X और Y एक वर्गाकार मेज के चारों ओर केन्द्र की ओर मुख करके बैठे हैं। उनमें से कुछ मेज के कोनों पर बैठे हैं जबकि कुछ भुजाओं के ठीक मध्य में बैठे हैं। X और Y का निकटतम पड़ोसी R है। X किसी भी एक कोने में बैठा है। W, T के दाईं ओर से तीसरे स्थान पर बैठा है। T किसी भी कोने में नहीं बैठा है। Y और W का निकटतम पड़ोसी U है। V, W का पड़ोसी नहीं है। W के दाईं ओर से गिनने पर W और T के बीच में कितने व्यक्ति बैठे हैं?

- Ans**
- 1. तीन
 - 2. दो
 - 3. चार
 - 4. पांच

Question ID : 264330155540

Option 1 ID : 264330609565

Option 2 ID : 264330609566

Option 3 ID : 264330609564

Option 4 ID : 264330609563

Status : Not Answered

Chosen Option : --

Q.6 अंग्रेजी वर्णमाला क्रम के आधार पर CZMB, NNAM से एक निश्चित प्रकार से संबंधित है। उसी प्रकार, LKQD, WRLO से संबंधित है। समान तर्क का अनुसरण करते हुए HNTF निम्नलिखित में से किससे संबंधित है?

- Ans**
- 1. SUOQ
 - 2. SOUQ
 - 3. SUQO
 - 4. SQOU

Question ID : 264330154181

Option 1 ID : 264330604188

Option 2 ID : 264330604187

Option 3 ID : 264330604190

Option 4 ID : 264330604189

Status : Answered

Chosen Option : 1

Q.7 दी गई श्रृंखला में प्रश्न चिह्न “?” के स्थान पर क्या आना चाहिए?

56 54 50 48 44 ?

- Ans
- 1. 40
 - 2. 42
 - 3. 38
 - 4. 36

Question ID : 264330151718
Option 1 ID : 264330594499
Option 2 ID : 264330594500
Option 3 ID : 264330594501
Option 4 ID : 264330594502
Status : Answered
Chosen Option : 2

Q.8 एक निश्चित तर्क के अनुसार 28, 12 से संबंधित है। समान तर्क के अनुसार, 42, 19 से संबंधित है। समान तर्क का अनुसरण करते हुए 52 निम्नलिखित में से किससे संबंधित है?

- Ans
- 1. 25
 - 2. 22
 - 3. 24
 - 4. 23

Question ID : 264330151584
Option 1 ID : 264330593966
Option 2 ID : 264330593963
Option 3 ID : 264330593965
Option 4 ID : 264330593964
Status : Answered
Chosen Option : 3

Q.9 एक निश्चित कूट भाषा में, 'MACABRE' को '8' लिखा जाता है और 'HEDONISM' को '9' लिखा जाता है। उस कूट भाषा में 'ERUPT' को कैसे लिखा जाएगा?

- Ans
- 1. 5
 - 2. 6
 - 3. 7
 - 4. 8

Question ID : 264330155823
Option 1 ID : 264330610696
Option 2 ID : 264330610697
Option 3 ID : 264330610698
Option 4 ID : 264330610695
Status : Answered
Chosen Option : 2

Q.10 नीचे दिए गए कथनों और निष्कर्षों को ध्यानपूर्वक पढ़िए। आपको मानना है कि दिए गए कथन सत्य हैं चाहे वे समान्यतः ज्ञात तथ्यों से अलग प्रतीत होते हों। आपको निश्चय करना है कि कौन-सा/कौन-से निष्कर्ष तार्किक रूप से दिए गए कथनों के अनुसार है/हैं।

कथन: सभी फूल, नारंगी हैं। कुछ नारंगी, रंग हे। सभी रंग, चमकीले हैं।

निष्कर्ष I: कुछ नारंगी, फूल हैं।
निष्कर्ष II: सभी रंग, नारंगी हैं।

- Ans**
- ✓ 1. केवल निष्कर्ष (I) कथनों के अनुसार है।
 - ✗ 2. केवल निष्कर्ष (II) कथनों के अनुसार है।
 - ✗ 3. दोनों निष्कर्ष (I) और (II) कथनों के अनुसार हैं।
 - ✗ 4. न तो निष्कर्ष (I) और न ही (II) कथनों के अनुसार है।

Question ID : 264330155904

Option 1 ID : 264330611019

Option 2 ID : 264330611020

Option 3 ID : 264330611022

Option 4 ID : 264330611021

Status : Answered

Chosen Option : 1

Q.11 अक्षरों के उस संयोजन को चुनिए जिसे दी गई श्रृंखला के रिक्त स्थानों में क्रमिक रूप से रखने पर श्रृंखला तार्किक रूप से पूरी हो जाएगी।

AC_F GIJ_ M_PR _UVX YA_D

- Ans**
- ✓ 1. DLOSB
 - ✗ 2. DKOBS
 - ✗ 3. LODBS
 - ✗ 4. HFBHC

Question ID : 264330156316

Option 1 ID : 264330612664

Option 2 ID : 264330612665

Option 3 ID : 264330612666

Option 4 ID : 264330612663

Status : Answered

Chosen Option : 1

Q.12 दी गई श्रृंखला में प्रश्न चिह्न '?' के स्थान पर क्या आना चाहिए?

175 180 185 190 195 ?

- Ans**
- ✗ 1. 204
 - ✗ 2. 201
 - ✓ 3. 200
 - ✗ 4. 207

Question ID : 264330151544

Option 1 ID : 264330593804

Option 2 ID : 264330593803

Option 3 ID : 264330593806

Option 4 ID : 264330593805

Status : Answered

Chosen Option : 3

Q.13 यदि 'P' का अर्थ '+', 'Q' का अर्थ '-', 'R' का अर्थ 'x' और 'S' का अर्थ '=' है, तो निम्नलिखित समीकरण में प्रश्न चिन्ह (?) के स्थान पर क्या आएगा?
39 S 6 P 9 R 32 S 15 P 8 R 70 = ?

- Ans**
- 1. 88
 - 2. 91
 - 3. 119
 - 4. 111

Question ID : 264330151791
Option 1 ID : 264330594793
Option 2 ID : 264330594792
Option 3 ID : 264330594794
Option 4 ID : 264330594791
Status : Answered
Chosen Option : 4

Q.14 एक निश्चित तर्क के अनुसार 27, 36 से संबंधित है। समान तर्क के अनुसार, 69, 78 से संबंधित है। समान तर्क का अनुसरण करते हुए 53 निम्नलिखित में से किससे संबंधित है?

- Ans**
- 1. 64
 - 2. 62
 - 3. 61
 - 4. 63

Question ID : 264330151598
Option 1 ID : 264330594022
Option 2 ID : 264330594020
Option 3 ID : 264330594019
Option 4 ID : 264330594021
Status : Answered
Chosen Option : 2

Q.15 एक निश्चित कूट भाषा में, 'never lose hope' को 'tu fk mb' लिखा जाता है और 'winners never quit' को 'dg vc fk' लिखा जाता है। उसी कूट भाषा में 'never' को कैसे लिखा जाएगा?

- Ans**
- 1. tu
 - 2. fk
 - 3. vc
 - 4. dg

Question ID : 264330151696
Option 1 ID : 264330594411
Option 2 ID : 264330594412
Option 3 ID : 264330594414
Option 4 ID : 264330594413
Status : Answered
Chosen Option : 2

Q.16 अंग्रेजी वर्णमाला क्रम के आधार पर दी गई श्रृंखला में प्रश्न चिह्न (?) के स्थान पर क्या आना चाहिए?

KFY, LGA, MHC, NIE, ?

- Ans
- 1. NJG
 - 2. MIH
 - 3. MKI
 - 4. OJG

Question ID : 264330155773
Option 1 ID : 264330610495
Option 2 ID : 264330610497
Option 3 ID : 264330610496
Option 4 ID : 264330610498
Status : Answered
Chosen Option : 4

Q.17 यदि 16 सितम्बर 1980 को मंगलवार है, तो 3 सितम्बर 1985 को सप्ताह का कौन-सा दिन होगा?

- Ans
- 1. मंगलवार
 - 2. रविवार
 - 3. शुक्रवार
 - 4. शनिवार

Question ID : 264330154349
Option 1 ID : 264330604860
Option 2 ID : 264330604862
Option 3 ID : 264330604859
Option 4 ID : 264330604861
Status : Answered
Chosen Option : 1

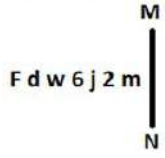
Q.18 दी गई श्रृंखला में प्रश्न चिह्न '?' के स्थान पर क्या आना चाहिए?

101 104 109 116 125 ?

- Ans
- 1. 136
 - 2. 134
 - 3. 133
 - 4. 135

Question ID : 264330151545
Option 1 ID : 264330593810
Option 2 ID : 264330593808
Option 3 ID : 264330593807
Option 4 ID : 264330593809
Status : Answered
Chosen Option : 1

Q.19 दी गई आकृति के उस सही दर्पण प्रतिबिंब को चुनिए, जो नीचे दर्शाए गए अनुसार दर्पण को MN पर रखने पर बनेगा।



- Ans
- 1. m 2 j @ w b F
 - 2. m 2 j @ w b F
 - 3. 2 m j @ w b F
 - 4. m 2 j @ m d F

Question ID : 264330151505

Option 1 ID : 264330593648

Option 2 ID : 264330593649

Option 3 ID : 264330593650

Option 4 ID : 264330593647

Status : Answered

Chosen Option : 2

KD Job Updates

Q.20 यदि निम्नलिखित आकृति श्रृंखला को जारी रखना हो तो कौन-सी आकृति प्रश्न चिन्ह (?) के स्थान पर आनी चाहिए?

D	X	Y	8	Y	9	9	8	Y	↑	Y	D	
8	↑		D	X		↑	=		9	8		?
		9			↑			D			=	

Ans

✗ 1.

9	↑	=
8	Y	
		D

✗ 2.

Y	D	↑
=	S	
		9

✗ 3.

D	↑	Y
=	9	
		8

✓ 4.

D	↑	Y
=	S	
		9

Question ID : 264330154757

Option 1 ID : 264330606492

Option 2 ID : 264330606494

Option 3 ID : 264330606491

Option 4 ID : 264330606493

Status : Not Answered

Chosen Option : --

Section : General Awareness

Q.1 किसी अर्थव्यवस्था में मुद्रा का मुख्य कार्य क्या है?

- Ans
- ✗ 1. संपत्ति सृजन करना
 - ✗ 2. ब्याज दरों को विनियमित करना
 - ✓ 3. विनिमय को सुगम बनाना
 - ✗ 4. महंगाई पर नियंत्रण करना

Question ID : 264330157297

Option 1 ID : 264330616552

Option 2 ID : 264330616554

Option 3 ID : 264330616551

Option 4 ID : 264330616553

Status : Answered

Chosen Option : 3

Q.2 ट्रिपैनोसोमा (Trypanosoma) जीनस के प्रोटोजोआ के कारण होने वाली उस जानलेवा बीमारी का नाम बताइए जो संक्रमित त्सत्से मक्खियों (tsetse flies) के काटने से मानव शरीर में फैलती है।

- Ans
- 1. जिआर्डियासिस (Giardiasis)
 - 2. कालाजार (Kala-azar)
 - 3. निद्रालु व्याधि (Sleeping sickness)
 - 4. चगास रोग (Chagas disease)

Question ID : 264330161077
Option 1 ID : 264330631640
Option 2 ID : 264330631641
Option 3 ID : 264330631642
Option 4 ID : 264330631639
Status : Answered
Chosen Option : 2

Q.3 भारत ने निम्नलिखित में से किस देश को हराकर पुरुष हॉकी जूनियर एशिया कप 2023 (Men's Hockey Junior Asia Cup 2023) जीता?

- Ans
- 1. थाईलैंड
 - 2. जापान
 - 3. पाकिस्तान
 - 4. दक्षिण कोरिया

Question ID : 264330161135
Option 1 ID : 264330631874
Option 2 ID : 264330631873
Option 3 ID : 264330631871
Option 4 ID : 264330631872
Status : Answered
Chosen Option : 3

Q.4 'द फॉल ऑफ ए स्पैरो' (The Fall of a Sparrow) _____ की आत्मकथा है।

- Ans
- 1. राज कपूर
 - 2. अटल बिहारी वाजपेयी
 - 3. सलीम अली
 - 4. कपिल देव

Question ID : 264330155490
Option 1 ID : 264330609366
Option 2 ID : 264330609363
Option 3 ID : 264330609364
Option 4 ID : 264330609365
Status : Answered
Chosen Option : 3

Q.5 भारतीय संविधान के अनुच्छेद 19 का कौन-सा खंड 'भारत के संपूर्ण राज्यक्षेत्र में स्वतंत्र रूप से भ्रमण करने के अधिकार' की गारंटी देता है?

- Ans
- 1. खण्ड (b)
 - 2. खण्ड (c)
 - 3. खण्ड (d)
 - 4. खण्ड (a)

Question ID : 264330162249
Option 1 ID : 264330636324
Option 2 ID : 264330636325
Option 3 ID : 264330636326
Option 4 ID : 264330636323
Status : Answered
Chosen Option : 3

Q.6 किस स्थान पर आयोजित की गई कांग्रेस अधिवेशन में दादाभाई नौरोजी ने 'स्वराज' शब्द का सर्वप्रथम प्रयोग किया था?

- Ans
- 1. लखनऊ
 - 2. कलकत्ता
 - 3. सूरत
 - 4. मद्रास

Question ID : 264330162327
Option 1 ID : 264330636637
Option 2 ID : 264330636638
Option 3 ID : 264330636635
Option 4 ID : 264330636636
Status : Answered
Chosen Option : 2

Q.7 रिखमपदा (Rikham pada) नृत्य का संबंध निम्नलिखित में से किस राज्य से है?

- Ans
- 1. असम
 - 2. अरुणाचल प्रदेश
 - 3. मिजोरम
 - 4. मेघालय

Question ID : 264330159059
Option 1 ID : 264330623596
Option 2 ID : 264330623595
Option 3 ID : 264330623598
Option 4 ID : 264330623597
Status : Not Answered
Chosen Option : --

Q.8 ब्रिटिश ईस्ट इंडिया कंपनी ने 'स्थायी बंदोबस्त प्रणाली' की शुरुआत कब की?

- Ans
- 1. 1793 ई.
 - 2. 1780 ई.
 - 3. 1799 ई.
 - 4. 1773 ई.

Question ID : 264330162317
Option 1 ID : 264330636597
Option 2 ID : 264330636596
Option 3 ID : 264330636598
Option 4 ID : 264330636595
Status : Answered
Chosen Option : 4

Q.9 2022 में, केंद्र ने न्यूनतम समर्थन मूल्य (MSP) के मुद्दों पर गौर करने के लिए पूर्व केंद्रीय कृषि सचिव _____ की अध्यक्षता में एक समिति का गठन किया।

- Ans
- 1. पी. चन्द्रशेखर
 - 2. राधा मोहन सिंह
 - 3. संजय अग्रवाल
 - 4. जे.पी. शर्मा

Question ID : 264330161410
Option 1 ID : 264330632969
Option 2 ID : 264330632967
Option 3 ID : 264330632968
Option 4 ID : 264330632970
Status : Answered
Chosen Option : 2

Q.10 निम्नलिखित में से कौन एक प्रशंसित कथक नर्तक है, जिनके नाम कई पुरस्कार हैं?

- Ans
- 1. उस्ताद बिस्मिल्लाह खान
 - 2. पंडित बिरजू महाराज
 - 3. उस्ताद अल्ला रक्खा
 - 4. पंडित शिव कुमार शर्मा

Question ID : 264330160981
Option 1 ID : 264330631256
Option 2 ID : 264330631258
Option 3 ID : 264330631257
Option 4 ID : 264330631255
Status : Answered
Chosen Option : 2

Q.11 भारत में दूसरी बार एशियाई खेलों का आयोजन कब किया गया था?

- Ans
- 1. 1986
 - 2. 1994
 - 3. 1998
 - 4. 1982

Question ID : 264330158237
Option 1 ID : 264330620307
Option 2 ID : 264330620309
Option 3 ID : 264330620310
Option 4 ID : 264330620308
Status : Not Answered
Chosen Option : --

Q.12 'पिंजर (Pinjar)' _____ का एक उपन्यास है।

- Ans
- 1. अनिता देसाई
 - 2. किरण देसाई
 - 3. कमला दास
 - 4. अमृता प्रीतम

Question ID : 264330160969
Option 1 ID : 264330631208
Option 2 ID : 264330631209
Option 3 ID : 264330631210
Option 4 ID : 264330631207
Status : Answered
Chosen Option : 4

Q.13 जॉन डाल्टन ने 1808 में रासायनिक अभिक्रियाओं को समझाने के लिए कौन-सा सिद्धांत प्रकाशित किया था?

- Ans
- 1. संयोजकता आबन्ध सिद्धांत
 - 2. परमाणु सिद्धांत
 - 3. आविष्क कक्षक सिद्धांत
 - 4. क्वान्टम फील्ड सिद्धांत

Question ID : 264330161057
Option 1 ID : 264330631561
Option 2 ID : 264330631559
Option 3 ID : 264330631562
Option 4 ID : 264330631560
Status : Answered
Chosen Option : 2

Q.14 निम्नलिखित में से 'संतूर' नामक संगीत वाद्ययंत्र के प्रसिद्ध वादक कौन थे?

- Ans
- 1. पंडित कुमार गंधर्व
 - 2. पंडित हरिप्रसाद चौरसिया
 - 3. पंडित शिवकुमार शर्मा
 - 4. पंडित रविशंकर

Question ID : 264330155462
Option 1 ID : 264330609251
Option 2 ID : 264330609253
Option 3 ID : 264330609254
Option 4 ID : 264330609252
Status : Answered
Chosen Option : 3

Q.15 किस भारतीय संगीतकार का संबंध बांसुरी से है?

- Ans
- 1. उस्ताद अल्ला रक्खा
 - 2. उस्ताद ज़ाकिर हुसैन
 - 3. पंडित हरि प्रसाद चौरसिया
 - 4. पंडित रविशंकर

Question ID : 264330162231
Option 1 ID : 264330636252
Option 2 ID : 264330636254
Option 3 ID : 264330636251
Option 4 ID : 264330636253
Status : Answered
Chosen Option : 3

Q.16 वैश्विक बहुआयामी गरीबी सूचकांक 2022 के अनुसार, निम्नलिखित में से कौन-सा राज्य 10 सबसे गरीब राज्यों में शामिल नहीं है?

- Ans
- 1. गुजरात
 - 2. उत्तरप्रदेश
 - 3. ओडिशा
 - 4. असम

Question ID : 264330161502
Option 1 ID : 264330633337
Option 2 ID : 264330633336
Option 3 ID : 264330633338
Option 4 ID : 264330633335
Status : Answered
Chosen Option : 1

Q.17 _____ की काली मिट्टी वाले क्षेत्र को दक्कन उभेदन (Deccan Trap) के नाम से जाना जाता है।

- Ans
- 1. हिमालय पर्वत
 - 2. तटीय मैदानों
 - 3. उत्तरी मैदान
 - 4. प्रायद्वीपीय पठार

Question ID : 264330161524
Option 1 ID : 264330633425
Option 2 ID : 264330633426
Option 3 ID : 264330633424
Option 4 ID : 264330633423
Status : Answered
Chosen Option : 4

Q.18 मृदा विज्ञान के क्षेत्र में ह्यूमस को क्या माना जाता है?

- Ans
- 1. सांश्लेषिक योजक
 - 2. खनिज-समृद्ध यौगिक
 - 3. अकार्बनिक पदार्थ
 - 4. मृदा में क्षयमान कार्बनिक पदार्थ

Question ID : 264330161317
Option 1 ID : 264330632598
Option 2 ID : 264330632595
Option 3 ID : 264330632596
Option 4 ID : 264330632597
Status : Answered
Chosen Option : 4

Q.19 निम्नलिखित में से सरकारी बजट में राजस्व व्यय का उदाहरण कौन-सा है?

- Ans
- 1. नए राजमार्ग का निर्माण
 - 2. किसी राज्य-स्वामित्व वाली कंपनी में निवेश
 - 3. सरकारी कर्मचारियों के वेतन का भुगतान
 - 4. ऋण का पुनर्भुगतान

Question ID : 264330157275
Option 1 ID : 264330616463
Option 2 ID : 264330616466
Option 3 ID : 264330616464
Option 4 ID : 264330616465
Status : Answered
Chosen Option : 4

Q.20 _____ में मनाए जाने वाले प्रमुख त्योहारों में से एक 'मे-दम-मे-फी' (Me-Dum-Me-Phi), यानी पूर्वजों की पूजा का त्योहार है।

- Ans
- 1. नगालैंड
 - 2. मेघालय
 - 3. मणिपुर
 - 4. असम

Question ID : 264330160820
Option 1 ID : 264330630613
Option 2 ID : 264330630612
Option 3 ID : 264330630614
Option 4 ID : 264330630611
Status : Answered
Chosen Option : 3

Q.21 भारत के राष्ट्रपति ने 2023 में सनाथोइबा शर्मा (Sanathoiba Sharma) को _____ के क्षेत्र में उनकी विशिष्ट सेवा के लिए पद्म श्री पुरस्कार से सम्मानित किया।

- Ans
- 1. यूबी लाकपी (Yubi Lakpi)
 - 2. मुकना (Mukna)
 - 3. थंग-ता (Thang-Ta)
 - 4. खोंग कांगजेई (Khong Kangjei)

Question ID : 264330161444
Option 1 ID : 264330633106
Option 2 ID : 264330633105
Option 3 ID : 264330633103
Option 4 ID : 264330633104
Status : Answered
Chosen Option : 3

Q.22 फ़सलों का कौन-सा समूह रेशेदार फ़सलों से संबंधित है और भारत में बड़े पैमाने पर उत्पादित किया जाता है?

- Ans
- 1. चना और अरहर
 - 2. चाय और कॉफी
 - 3. गेहूं और चावल
 - 4. जूट और भांग

Question ID : 264330160138
Option 1 ID : 264330627892
Option 2 ID : 264330627893
Option 3 ID : 264330627891
Option 4 ID : 264330627894
Status : Answered
Chosen Option : 3

Q.23 किसी नागरिक की साहित्य, विज्ञान, कला और सामाजिक सेवा में उनकी उत्कृष्टता के आधार पर राज्यसभा के लिए सदस्यों को कौन नामांकित करता है?

- Ans
- 1. प्रधानमंत्री
 - 2. राज्य सभा के सभापति
 - 3. भारत के मुख्य न्यायाधीश
 - 4. राष्ट्रपति

Question ID : 264330161292
Option 1 ID : 264330632495
Option 2 ID : 264330632496
Option 3 ID : 264330632498
Option 4 ID : 264330632497
Status : Answered
Chosen Option : 4

Q.24 छउ नृत्य, जिसे संस्कृति मंत्रालय द्वारा शास्त्रीय नृत्य के रूप में पहचान दी गई है, पूर्वी भारत में प्रचलित है और इसके तीन अलग-अलग रूप हैं। निम्नलिखित में से कौन-सा उनमें से एक नहीं है?

- Ans
- 1. छत्तीसगढ़ का मरवाही छउ (Marwahi Chhau of Chhattisgarh)
 - 2. झारखंड का सरायकेला छउ (Seraikela Chhau of Jharkhand)
 - 3. ओडिशा का मयूरभंज छउ (Mayurbhanj Chhau of Odisha)
 - 4. पश्चिम बंगाल का पुरुलिया छउ (Purulia Chhau of West Bengal)

Question ID : 264330160792
Option 1 ID : 264330630502
Option 2 ID : 264330630500
Option 3 ID : 264330630499
Option 4 ID : 264330630501
Status : Answered
Chosen Option : 1

Q.25 Who among the following designed the India Gate?

- Ans
- 1. Lord Wavell
 - 2. John Nash
 - 3. Lord Dalhousie
 - 4. Edwin Lutyens

Question ID : 264330160773
Option 1 ID : 264330630423
Option 2 ID : 264330630426
Option 3 ID : 264330630425
Option 4 ID : 264330630424
Status : Answered
Chosen Option : 4

Section : English Language and Comprehension

Q.1 Select the most appropriate option that can substitute the underlined segment in the given sentence. If there is no need to substitute it, select 'No substitution required'.
Virtual reality is the creation of a virtual environment presented to our senses in such a way that we experience it as if we were really there.

- Ans
- 1. presents to our senses
 - 2. No substitution required
 - 3. presenting in our senses
 - 4. presenting to our senses

Question ID : 264330151899
Option 1 ID : 264330595211
Option 2 ID : 264330595214
Option 3 ID : 264330595213
Option 4 ID : 264330595212
Status : Answered
Chosen Option : 4

Q.2 Select the most appropriate option to fill in the blank.

Some things are meant to be, and death is _____ for humans.

- Ans
- 1. natural
 - 2. edible
 - 3. spiral
 - 4. viral

Question ID : 264330153497
Option 1 ID : 264330601504
Option 2 ID : 264330601506
Option 3 ID : 264330601505
Option 4 ID : 264330601503
Status : Answered
Chosen Option : 1

Q.3 Identify the INCORRECTLY spelt word in the following sentence and select its correct spelling from the given options.
He has neither the policies nor the persanol charisma to inspire people.

- Ans
- 1. niether
 - 2. personal
 - 3. cherisma
 - 4. polecies

Question ID : 264330153109
Option 1 ID : 264330599999
Option 2 ID : 264330600001
Option 3 ID : 264330600002
Option 4 ID : 264330600000
Status : Answered
Chosen Option : 2

Q.4 Select the most appropriate **ANTONYM** of the underlined word.
Everyone liked the lively music being played at the restaurant.

- Ans**
- 1. Durable
 - 2. Speedy
 - 3. Cheerful
 - 4. Sombre

Question ID : 264330153408
Option 1 ID : 264330601168
Option 2 ID : 264330601169
Option 3 ID : 264330601167
Option 4 ID : 264330601170
Status : Answered
Chosen Option : 4

Q.5 Select the **INCORRECTLY** spelt word.

- Ans**
- 1. Fourty
 - 2. Hypnotic
 - 3. Tennessee
 - 4. Committee

Question ID : 264330153219
Option 1 ID : 264330600435
Option 2 ID : 264330600438
Option 3 ID : 264330600437
Option 4 ID : 264330600436
Status : Answered
Chosen Option : 3

Q.6 Select the most appropriate idiom from the given options to fill in the blank.
Greta Thunberg _____ when she dared to question about accountability with respect to global warming and climate change.

- Ans**
- 1. hit the nail on the head
 - 2. gave the devil his due
 - 3. kept the pot boiling
 - 4. sowed wild oats

Question ID : 264330152685
Option 1 ID : 264330598344
Option 2 ID : 264330598343
Option 3 ID : 264330598345
Option 4 ID : 264330598346
Status : Answered
Chosen Option : 1

Q.7 Select the most appropriate idiom from the given options to fill in the blank.
Being a journalist, your first duty is to _____ or else your colleagues might surpass you.

- Ans
- 1. build castles in the air
 - 2. eat a humble pie
 - 3. keep your ear to the ground
 - 4. have an axe to grind

Question ID : 264330152686
Option 1 ID : 264330598347
Option 2 ID : 264330598348
Option 3 ID : 264330598350
Option 4 ID : 264330598349
Status : Answered
Chosen Option : 3

Q.8 Parts of the following sentence have been given as options. Select the option that contains an error.
In Nepal, the food is more cheaper than in Sri Lanka.

- Ans
- 1. the food is
 - 2. more cheaper
 - 3. than in Sri Lanka
 - 4. In Nepal

Question ID : 264330152799
Option 1 ID : 264330598788
Option 2 ID : 264330598789
Option 3 ID : 264330598790
Option 4 ID : 264330598787
Status : Answered
Chosen Option : 2

Q.9 Parts of the following sentence have been underlined and given as options. Select the option that contains an error.

As soon as I shall win the lottery, I hope to buy a Ferrari.

- Ans
- 1. a Ferrari
 - 2. shall win
 - 3. As soon as
 - 4. hope

Question ID : 264330159746
Option 1 ID : 264330626342
Option 2 ID : 264330626340
Option 3 ID : 264330626339
Option 4 ID : 264330626341
Status : Answered
Chosen Option : 2

Q.10 Select the most appropriate meaning of the given idiom.
Be like chalk and cheese

- Ans 1. To be very similar to each other
 2. To be completely different from each other
 3. To be distantly related to each other
 4. To have a close relation with another person

Question ID : 264330153410
Option 1 ID : 264330601176
Option 2 ID : 264330601175
Option 3 ID : 264330601178
Option 4 ID : 264330601177
Status : Answered
Chosen Option : 1

Q.11 The following sentence has been split into four segments. Identify the segment that contains an error.

Manisha saw an old elephant / in the wildlife reserve / while she was / on safari tour.

- Ans 1. while she was
 2. Manisha saw an old elephant
 3. in the wildlife reserve
 4. on safari tour

Question ID : 264330155316
Option 1 ID : 264330608705
Option 2 ID : 264330608703
Option 3 ID : 264330608704
Option 4 ID : 264330608706
Status : Answered
Chosen Option : 3

Q.12 The following sentence has been divided into four parts. Identify the part that contains an error.

(A) He will come / (B) and receive you / (C) at the station / (D) when you will arrive.

- Ans 1. A
 2. C
 3. B
 4. D

Question ID : 264330152626
Option 1 ID : 264330598108
Option 2 ID : 264330598109
Option 3 ID : 264330598110
Option 4 ID : 264330598107
Status : Answered
Chosen Option : 3

Q.13 Select the most appropriate option that can substitute the underlined segment in the given sentence. If there is no need to substitute it, select 'No substitution required'.
When Rajesh was going to college, he meet with an accident.

- Ans
- 1. meets
 - 2. met
 - 3. No substitution required
 - 4. has met

Question ID : 264330152727
Option 1 ID : 264330598507
Option 2 ID : 264330598509
Option 3 ID : 264330598510
Option 4 ID : 264330598508
Status : Answered
Chosen Option : 2

Q.14 Select the most appropriate meaning of the underlined idiom.

The judge wanted to hear straight from the horse's mouth.

- Ans
- 1. Having ears which never fail
 - 2. Directly from the person involved
 - 3. In close vicinity to the juror
 - 4. Directly from the lawyer

Question ID : 264330153149
Option 1 ID : 264330600158
Option 2 ID : 264330600155
Option 3 ID : 264330600157
Option 4 ID : 264330600156
Status : Answered
Chosen Option : 2

Q.15 Select the option that can be used as a one-word substitute for the underlined segment in the following sentence.
Raymond has opted the study of religion as his major subject in graduation.

- Ans
- 1. Psychology
 - 2. Psephology
 - 3. Philology
 - 4. Theology

Question ID : 264330152715
Option 1 ID : 264330598460
Option 2 ID : 264330598459
Option 3 ID : 264330598461
Option 4 ID : 264330598462
Status : Answered
Chosen Option : 4

Q.16 Select the option that rectifies the spelling of the underlined word in the given sentence.

They complained that their manager was incompietent and knew nothing about the project.

- Ans** 1. incompetent
 2. incompitent
 3. incompetteant
 4. incomepetent

Question ID : 264330152837
Option 1 ID : 264330598940
Option 2 ID : 264330598939
Option 3 ID : 264330598941
Option 4 ID : 264330598942
Status : Answered
Chosen Option : 2

Q.17 Select the most appropriate ANTONYM of the given word.
Periodic

- Ans** 1. Irregular
 2. Holistic
 3. Tedious
 4. Dynamic

Question ID : 264330151913
Option 1 ID : 264330595270
Option 2 ID : 264330595269
Option 3 ID : 264330595268
Option 4 ID : 264330595267
Status : Answered
Chosen Option : 1

Q.18 Select the most appropriate synonym of the given word.
Distinguished

- Ans** 1. Dramatic
 2. Mirrored
 3. Dignified
 4. Mediocre

Question ID : 264330153558
Option 1 ID : 264330601732
Option 2 ID : 264330601733
Option 3 ID : 264330601731
Option 4 ID : 264330601734
Status : Answered
Chosen Option : 3

Q.19 Select the most appropriate option to fill in the blank.
Most times, he is sitting alone, immersed in his own _____.

- Ans
- 1. prologue
 - 2. mystagogue
 - 3. monologue
 - 4. synagogue

Question ID : 264330153436
Option 1 ID : 264330601268
Option 2 ID : 264330601270
Option 3 ID : 264330601269
Option 4 ID : 264330601267
Status : Answered
Chosen Option : 4

Q.20 The following sentence has been split into four segments. Identify the segment that contains a grammatical error.

She is very good / in playing / the guitar / and singing songs.

- Ans
- 1. and singing songs
 - 2. in playing
 - 3. the guitar
 - 4. She is very good

Question ID : 264330155427
Option 1 ID : 264330609118
Option 2 ID : 264330609116
Option 3 ID : 264330609117
Option 4 ID : 264330609115
Status : Answered
Chosen Option : 3

Comprehension:

In the following passage, some words have been deleted. Read the passage carefully and select the most appropriate option to fill in each blank.

Environmental pollution is a growing (1)_____ all around the world as it poses significant risks to human health and ecosystems. The (2)_____ of environmental pollution vary from natural causes such as volcanic emissions to human actions, including industrialisation, transportation, energy production and agricultural practices. (3)_____ of these activities, pollutants are released into the air, water bodies and soil leading to harmful effects such as respiratory diseases, loss of biodiversity and climate change. One of the primary causes of environmental pollution is human attitudes towards sustainability (4)_____ their lack of environmental awareness. Human activities that harm the environment and ecosystem often result from individual choices (5)_____ driving or using single-use plastics.

SubQuestion No : 21

Q.21 Select the most appropriate option to fill in blank number 1.

- Ans
- 1. duty
 - 2. charge
 - 3. concern
 - 4. interest

Question ID : 264330153398
Option 1 ID : 264330601128
Option 2 ID : 264330601127
Option 3 ID : 264330601129
Option 4 ID : 264330601130
Status : Answered
Chosen Option : 3

Comprehension:

In the following passage, some words have been deleted. Read the passage carefully and select the most appropriate option to fill in each blank.

Environmental pollution is a growing (1)_____ all around the world as it poses significant risks to human health and ecosystems. The (2)_____ of environmental pollution vary from natural causes such as volcanic emissions to human actions, including industrialisation, transportation, energy production and agricultural practices. (3)_____ of these activities, pollutants are released into the air, water bodies and soil leading to harmful effects such as respiratory diseases, loss of biodiversity and climate change. One of the primary causes of environmental pollution is human attitudes towards sustainability (4)_____ their lack of environmental awareness. Human activities that harm the environment and ecosystem often result from individual choices (5)_____ driving or using single-use plastics.

SubQuestion No : 22

Q.22 Select the most appropriate option to fill in blank number 2.

- Ans 1. sourcing
 2. sourced
 3. sources
 4. source

Question ID : 264330153399

Option 1 ID : 264330601132

Option 2 ID : 264330601133

Option 3 ID : 264330601134

Option 4 ID : 264330601131

Status : Answered

Chosen Option : 3

Comprehension:

In the following passage, some words have been deleted. Read the passage carefully and select the most appropriate option to fill in each blank.

Environmental pollution is a growing (1)_____ all around the world as it poses significant risks to human health and ecosystems. The (2)_____ of environmental pollution vary from natural causes such as volcanic emissions to human actions, including industrialisation, transportation, energy production and agricultural practices. (3)_____ of these activities, pollutants are released into the air, water bodies and soil leading to harmful effects such as respiratory diseases, loss of biodiversity and climate change. One of the primary causes of environmental pollution is human attitudes towards sustainability (4)_____ their lack of environmental awareness. Human activities that harm the environment and ecosystem often result from individual choices (5)_____ driving or using single-use plastics.

SubQuestion No : 23

Q.23 Select the most appropriate option to fill in blank number 3.

- Ans 1. However
 2. Since
 3. Therefore
 4. As a result

Question ID : 264330153400

Option 1 ID : 264330601138

Option 2 ID : 264330601136

Option 3 ID : 264330601135

Option 4 ID : 264330601137

Status : Answered

Chosen Option : 4

Comprehension:

In the following passage, some words have been deleted. Read the passage carefully and select the most appropriate option to fill in each blank.

Environmental pollution is a growing (1)_____ all around the world as it poses significant risks to human health and ecosystems. The (2)_____ of environmental pollution vary from natural causes such as volcanic emissions to human actions, including industrialisation, transportation, energy production and agricultural practices. (3)_____ of these activities, pollutants are released into the air, water bodies and soil leading to harmful effects such as respiratory diseases, loss of biodiversity and climate change. One of the primary causes of environmental pollution is human attitudes towards sustainability (4)_____ their lack of environmental awareness. Human activities that harm the environment and ecosystem often result from individual choices (5)_____ driving or using single-use plastics.

SubQuestion No : 24

Q.24 Select the most appropriate option to fill in blank number 4.

- Ans
- 1. but
 - 2. because
 - 3. since
 - 4. and

Question ID : 264330153401

Option 1 ID : 264330601140

Option 2 ID : 264330601142

Option 3 ID : 264330601141

Option 4 ID : 264330601139

Status : Answered

Chosen Option : 4

Comprehension:

In the following passage, some words have been deleted. Read the passage carefully and select the most appropriate option to fill in each blank.

Environmental pollution is a growing (1)_____ all around the world as it poses significant risks to human health and ecosystems. The (2)_____ of environmental pollution vary from natural causes such as volcanic emissions to human actions, including industrialisation, transportation, energy production and agricultural practices. (3)_____ of these activities, pollutants are released into the air, water bodies and soil leading to harmful effects such as respiratory diseases, loss of biodiversity and climate change. One of the primary causes of environmental pollution is human attitudes towards sustainability (4)_____ their lack of environmental awareness. Human activities that harm the environment and ecosystem often result from individual choices (5)_____ driving or using single-use plastics.

SubQuestion No : 25

Q.25 Select the most appropriate option to fill in blank number 5.

- Ans
- 1. example
 - 2. while
 - 3. instance
 - 4. like

Question ID : 264330153402

Option 1 ID : 264330601144

Option 2 ID : 264330601143

Option 3 ID : 264330601145

Option 4 ID : 264330601146

Status : Answered

Chosen Option : 2

Multi Tasking Non Technical Staff and Havaladar CBIC and CBN Examination 2023

Roll Number	KD Job Updates
Candidate Name	KD Job Updates
Venue Name	iON Digital Zone iDZ Trinity 1Shri Jairam Education Society Kokta Bypass Road.
Exam Date	08/09/2023
Exam Time	9:00 AM - 11:00 AM
Subject	MTS Non Tech Havaladar CBIC and CBN Examination 2023

Section : Numerical and Mathematical Ability

Q.1 एक कक्षा में 48 विद्यार्थी हैं। उनका औसत भार 48 kg है। जब एक विद्यार्थी कक्षा छोड़ देता है, तो औसत भार में 200 ग्राम की कमी हो जाती है। कक्षा छोड़ने वाले विद्यार्थी का भार कितना है?

- Ans**
- 1. 45.7 kg
 - 2. 47.5 kg
 - 3. 54.7 kg
 - 4. 57.4 kg

Question ID : 264330156547

Option 1 ID : 264330613575

Option 2 ID : 264330613577

Option 3 ID : 264330613576

Option 4 ID : 264330613578

Status : Answered

Chosen Option : 4

Q.2 वृत्त आलेख में दी गई वर्ष 2019, 2020, 2021 और 2022 में एक कंपनी की बिक्री पर विचार कीजिए।



संदर्भ: Sales – बिक्री
2022 और 2019 में बिक्री द्वारा केंद्र पर कोणों में अंतर _____ डिग्री है।

- Ans
- ✓ 1. 70
 - ✗ 2. 50
 - ✗ 3. 80
 - ✗ 4. 60

Question ID : 264330153822

Option 1 ID : 264330602753

Option 2 ID : 264330602751

Option 3 ID : 264330602754

Option 4 ID : 264330602752

Status : Answered

Chosen Option : 1

Q.3 एक दिन छोड़कर काम करते हुए एक पुरुष और एक महिला एक काम को 15 दिनों में पूरा कर सकते हैं और यदि पुरुष पहले दिन काम शुरू करता है। यदि वे एक दिन छोड़कर काम करते हैं और यदि महिला पहले दिन काम शुरू करती है तो यही काम 14.5 दिनों में पूरा हो जाता है। एक पुरुष अकेले इस काम को _____ दिनों में पूरा करेगा।

- Ans
- ✗ 1. 15
 - ✓ 2. 22
 - ✗ 3. 21
 - ✗ 4. 25

Question ID : 264330153816

Option 1 ID : 264330602727

Option 2 ID : 264330602729

Option 3 ID : 264330602728

Option 4 ID : 264330602730

Status : Answered

Chosen Option : 2

Q.4 यदि 12 आमों का क्रय मूल्य, 16 आमों के विक्रय मूल्य के बराबर है, तो हानि प्रतिशत कितना है?

- Ans
- ✓ 1. 25%
 - ✗ 2. 4%
 - ✗ 3. 20%
 - ✗ 4. 33%

Question ID : 264330153871

Option 1 ID : 264330602948

Option 2 ID : 264330602947

Option 3 ID : 264330602949

Option 4 ID : 264330602950

Status : Answered

Chosen Option : 1

Q.5 सरल कीजिए।

$$3\frac{2}{7} + 3\frac{2}{11} \times 3\frac{1}{7} \div 4\frac{1}{3}$$

Ans

✗ 1. $3\frac{54}{91}$

✓ 2. $5\frac{54}{91}$

✗ 3. $7\frac{54}{91}$

✗ 4. $9\frac{54}{91}$

Question ID : 264330155721

Option 1 ID : 264330610287

Option 2 ID : 264330610288

Option 3 ID : 264330610289

Option 4 ID : 264330610290

Status : Answered

Chosen Option : 2

Q.6 उस घनाभ का आयतन ज्ञात कीजिए जिसके आयाम 12.2 cm, 16 cm और 8.5 cm हैं।

Ans

✗ 1. 3072 cm^3

✓ 2. 1659.2 cm^3

✗ 3. 1664 cm^3

✗ 4. 832 cm^3

Question ID : 264330156087

Option 1 ID : 264330611749

Option 2 ID : 264330611748

Option 3 ID : 264330611750

Option 4 ID : 264330611747

Status : Answered

Chosen Option : 2

Q.7 एक विद्यार्थी द्वारा पांच विषयों में निम्नलिखित अंक प्राप्त किए गए।

विषय	अंक (50 में से)
सीएस	49
इतिहास	41
अंग्रेजी	49
विज्ञान	44
सामाजिक विज्ञान	47

विद्यार्थी द्वारा प्राप्त किए गए अंकों का प्रतिशत क्या है?

- Ans
- ✗ 1. 93%
 - ✗ 2. 92.5%
 - ✓ 3. 92%
 - ✗ 4. 45%

Question ID : 264330156537

Option 1 ID : 264330613537

Option 2 ID : 264330613536

Option 3 ID : 264330613535

Option 4 ID : 264330613538

Status : Answered

Chosen Option : 3

Q.8 विनीता ने 8 वर्ष बाद 15% वार्षिक दर से एक निश्चित राशि पर साधारण ब्याज के रूप में ₹23,340 की धनराशि प्राप्त की। विनीता द्वारा निवेश की गई धनराशि कितनी थी?

- Ans
- ✓ 1. ₹19,450
 - ✗ 2. ₹18,650
 - ✗ 3. ₹20,450
 - ✗ 4. ₹17,490

Question ID : 264330156187

Option 1 ID : 264330612149

Option 2 ID : 264330612148

Option 3 ID : 264330612150

Option 4 ID : 264330612147

Status : Answered

Chosen Option : 1

Q.9 एक नाव धारा के अनुकूल 65 km की दूरी 5 घंटे में तय करती है जबकि धारा के प्रतिकूल समान दूरी 13 घंटे में तय करती है। स्थिर जल में नाव की चाल क्या है?

- Ans
- ✗ 1. 11 km/h
 - ✓ 2. 9 km/h
 - ✗ 3. 6 km/h
 - ✗ 4. 8 km/h

Question ID : 264330154093

Option 1 ID : 264330603836

Option 2 ID : 264330603837

Option 3 ID : 264330603835

Option 4 ID : 264330603838

Status : Answered

Chosen Option : 2

Q.10 एक वस्तु का क्रय मूल्य ₹4,850 है। यदि इसे ₹6,680 में बेचा जाता है तो लाभ प्रतिशत (दशमलव के 1 स्थान तक सन्निकटित) कितना है?

- Ans 1. 37.7%
 2. 39.5%
 3. 44.6%
 4. 35.5%

Question ID : 264330163010
Option 1 ID : 264330639358
Option 2 ID : 264330639357
Option 3 ID : 264330639356
Option 4 ID : 264330639355
Status : Answered
Chosen Option : 1

Q.11 एक छात्र द्वारा प्राप्त किए गए अंक, उसके द्वारा पढ़ाई में लगाए गए समय के अनुक्रमानुपाती हैं। यदि छात्र प्रतिदिन 4 घंटे पढ़ाई करके 60 अंक प्राप्त करता है, तो 75 अंक प्राप्त करने के लिए उसे प्रतिदिन कितने घंटे पढ़ाई करनी चाहिए?

- Ans 1. 5.5
 2. 5
 3. 6
 4. 4.5

Question ID : 264330153810
Option 1 ID : 264330602704
Option 2 ID : 264330602705
Option 3 ID : 264330602706
Option 4 ID : 264330602703
Status : Answered
Chosen Option : 2

Q.12 एक शंकु की त्रिज्या 10.5 cm है और वक्र पृष्ठ का क्षेत्रफल 396 cm^2 है। इसकी तिर्यक ऊंचाई ज्ञात कीजिए।

($\pi = \frac{22}{7}$ का प्रयोग कीजिए)

- Ans 1. 8.5 cm
 2. 12 cm
 3. 11.5 cm
 4. 9 cm

Question ID : 264330156371
Option 1 ID : 264330612883
Option 2 ID : 264330612886
Option 3 ID : 264330612885
Option 4 ID : 264330612884
Status : Answered
Chosen Option : 2

Q.13 A, B और C का औसत भार 43 kg है। यदि A और B का औसत भार 40 kg है तथा B और C का औसत भार 41 kg है, तो B का भार (kg में) कितना है?

- Ans**
- ✓ 1. 33
 - ✗ 2. 37
 - ✗ 3. 43
 - ✗ 4. 41

Question ID : 264330156509
Option 1 ID : 264330613423
Option 2 ID : 264330613424
Option 3 ID : 264330613426
Option 4 ID : 264330613425
Status : Answered
Chosen Option : 1

Q.14 A किसी काम को 20 दिनों में पूरा कर सकता है। B उसी काम को 36 दिनों में पूरा कर सकता है। यदि A और B साथ मिलकर काम करते हैं, तो काम को पूरा करने में कितने दिन लगेंगे?

- Ans**
- ✗ 1. $10\frac{1}{7}$
 - ✗ 2. $10\frac{6}{7}$
 - ✗ 3. $12\frac{1}{7}$
 - ✓ 4. $12\frac{6}{7}$

Question ID : 264330156492
Option 1 ID : 264330613357
Option 2 ID : 264330613355
Option 3 ID : 264330613356
Option 4 ID : 264330613358
Status : Answered
Chosen Option : 4

Q.15 दो किस्म के चावल हैं। किस्म 1 का मूल्य ₹100 प्रति किलोग्राम और किस्म 2 का मूल्य ₹120 प्रति किलोग्राम है। विक्रेता ने दोनों किस्मों को मिलाकर उन्हें ₹121 प्रति किलोग्राम पर बेच दिया और 10% का लाभ कमाया। मिश्रण में किस्म 1 और किस्म 2 के चावल का अनुपात ज्ञात कीजिए।

- Ans**
- ✗ 1. 2 : 1
 - ✗ 2. 3 : 1
 - ✗ 3. 1 : 3
 - ✓ 4. 1 : 1

Question ID : 264330153837
Option 1 ID : 264330602813
Option 2 ID : 264330602814
Option 3 ID : 264330602811
Option 4 ID : 264330602812
Status : Answered
Chosen Option : 4

Q.16 तीन अंकों की वह सबसे बड़ी संख्या कौन-सी है, जिसे 3, 5 और 9 से भाग देने पर समान शेषफल 2 प्राप्त होता है?

- Ans
- 1. 980
 - 2. 990
 - 3. 995
 - 4. 992

Question ID : 264330156249
Option 1 ID : 264330612398
Option 2 ID : 264330612396
Option 3 ID : 264330612397
Option 4 ID : 264330612395
Status : Answered
Chosen Option : 4

Q.17 816, 226, 408 का चतुर्थ समानुपाती क्या है?

- Ans
- 1. 103
 - 2. 113
 - 3. 108
 - 4. 117

Question ID : 264330154086
Option 1 ID : 264330603809
Option 2 ID : 264330603810
Option 3 ID : 264330603807
Option 4 ID : 264330603808
Status : Answered
Chosen Option : 2

Q.18 एक बस द्वारा 69 km/h की चाल से 55 मिनट में तय की गई दूरी (km में) कितनी है?

- Ans
- 1. 65.25
 - 2. 60.75
 - 3. 63.25
 - 4. 67.75

Question ID : 264330156488
Option 1 ID : 264330613339
Option 2 ID : 264330613340
Option 3 ID : 264330613342
Option 4 ID : 264330613341
Status : Answered
Chosen Option : 3

Q.19 यदि किसी उत्पाद के मूल्य में 50% की कमी की जाती है, फिर उसके मूल्य में 50% की वृद्धि की जाती है और फिर दोबारा 50% की वृद्धि की जाती है, तो उत्पाद के मूल्य में निवल वृद्धि प्रतिशत क्या है?

- Ans** ✓ 1. 12.5%
✗ 2. 11.5%
✗ 3. 9.5%
✗ 4. 13.5%

Question ID : 264330156516
Option 1 ID : 264330613454
Option 2 ID : 264330613451
Option 3 ID : 264330613452
Option 4 ID : 264330613453
Status : Answered
Chosen Option : 1

Q.20 A ने ₹62,500 अर्धवार्षिक रूप से संयोजित 8% वार्षिक की दर पर जमा किए, तो दो वर्षों के अंत में चक्रवृद्धि ब्याज कितना होगा?

- Ans** ✓ 1. ₹10,616.16
✗ 2. ₹12,171.72
✗ 3. ₹10,821.18
✗ 4. ₹18,161.12

Question ID : 264330154090
Option 1 ID : 264330603824
Option 2 ID : 264330603826
Option 3 ID : 264330603823
Option 4 ID : 264330603825
Status : Answered
Chosen Option : 1

Section : Reasoning Ability and Problem Solving

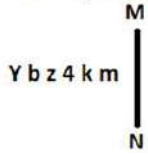
Q.1 दी गई श्रृंखला में प्रश्न चिह्न '?' के स्थान पर क्या आना चाहिए?

73 75 77 79 81 ?

- Ans** ✗ 1. 82
✗ 2. 84
✓ 3. 83
✗ 4. 85

Question ID : 264330151540
Option 1 ID : 264330593787
Option 2 ID : 264330593789
Option 3 ID : 264330593788
Option 4 ID : 264330593790
Status : Answered
Chosen Option : 3

Q.2 दी गई आकृति के उस सही दर्पण प्रतिबिंब को चुनिए, जो नीचे दर्शाए गए अनुसार दर्पण को MN पर रखने पर बनेगा।



- Ans
- 1. m k P z b Y
 - 2. m k P z d Y
 - 3. m k P z q λ
 - 4. w k 4 z d Y

Question ID : 264330151513

Option 1 ID : 264330593681

Option 2 ID : 264330593680

Option 3 ID : 264330593682

Option 4 ID : 264330593679

Status : Answered

Chosen Option : 2

Q.3 अंग्रेजी वर्णमाला क्रम के आधार पर दी गई श्रृंखला में प्रश्न चिह्न (?) के स्थान पर क्या आना चाहिए?

ICU, FAT, CYS, ZWR, ?

- Ans
- 1. VST
 - 2. WUQ
 - 3. WVS
 - 4. VTR

Question ID : 264330155778

Option 1 ID : 264330610516

Option 2 ID : 264330610518

Option 3 ID : 264330610515

Option 4 ID : 264330610517

Status : Answered

Chosen Option : 2

Q.4 यदि G का अर्थ -, C का अर्थ ×, D का अर्थ +, B का अर्थ = है, तो निम्नलिखित समीकरण में प्रश्न चिह्न (?) के स्थान पर क्या आएगा?
13 C 8 G 45 B 22 D 2 = ?

- Ans
- 1. 78
 - 2. 62
 - 3. 55
 - 4. 70

Question ID : 264330154682

Option 1 ID : 264330606194

Option 2 ID : 264330606192

Option 3 ID : 264330606191

Option 4 ID : 264330606193

Status : Answered

Chosen Option : 4

Q.5 सात व्यक्ति, U, M, K, G, B, R और D एक सीधी पंक्ति में दक्षिण की ओर मुख करके बैठे हैं। B के बाईं ओर केवल दो व्यक्ति बैठे हैं। M, G के दाईं ओर से तीसरे स्थान पर बैठा है। M और B का निकटतम पड़ोसी U है। D, K के ठीक बाईं ओर बैठा है।

D और G के बीच कुल कितने व्यक्ति बैठे हैं?

- Ans
- 1. एक
 - 2. चार
 - 3. दो
 - 4. तीन

Question ID : 264330161695

Option 1 ID : 264330634107

Option 2 ID : 264330634110

Option 3 ID : 264330634108

Option 4 ID : 264330634109

Status : Answered

Chosen Option : 4

Q.6 दी गई श्रृंखला में प्रश्न चिन्ह '?' के स्थान पर क्या आना चाहिए?

11 32 74 158 326 ?

- Ans
- 1. 674
 - 2. 648
 - 3. 662
 - 4. 625

Question ID : 264330151474

Option 1 ID : 264330593526

Option 2 ID : 264330593524

Option 3 ID : 264330593525

Option 4 ID : 264330593523

Status : Answered

Chosen Option : 3

Q.7 नीचे दिए गए कथनों और निष्कर्षों को ध्यानपूर्वक पढ़िए। आपको मानना है कि दिए गए कथन सत्य हैं चाहे वे समान्यतः ज्ञात तथ्यों से अलग प्रतीत होते हों। आपको निश्चय करना है कि कौन-सा कौन-से निष्कर्ष तार्किक रूप से दिए गए कथनों के अनुसार है/हैं।

कथन: कुछ कंचे, लकड़ी हैं। कुछ लकड़ी, मेजे हैं। कुछ मेजे, प्लास्टिक हैं।

निष्कर्ष I: कुछ लकड़ी, कंचे हैं।

निष्कर्ष II: सभी प्लास्टिक, मेजे हैं।

- Ans
- 1. न तो निष्कर्ष (I) और न ही (II) कथनों के अनुसार है।
 - 2. दोनों निष्कर्ष (I) और (II) कथनों के अनुसार हैं।
 - 3. केवल निष्कर्ष (I) कथनों के अनुसार है।
 - 4. केवल निष्कर्ष (II) कथनों के अनुसार है।

Question ID : 264330155901

Option 1 ID : 264330611009

Option 2 ID : 264330611010

Option 3 ID : 264330611007

Option 4 ID : 264330611008

Status : Answered

Chosen Option : 3

Q.8 नीचे दिए गए कथनों और निष्कर्षों को ध्यानपूर्वक पढ़िए। आपको मानना है कि दिए गए कथन सत्य हैं चाहे वे समान्यतः ज्ञात तथ्यों से अलग प्रतीत होते हों। आपको निश्चय करना है कि कौन-सा/कौन-से निष्कर्ष तार्किक रूप से दिए गए कथनों के अनुसार है/हैं।

कथन: सभी लोग लंबे हैं। कुछ लंबे, इमारतें हैं। कोई इमारतें, घड़ियां नहीं है।

निष्कर्ष I: कुछ लोग, इमारतें हैं।

निष्कर्ष II: कोई घड़ियां, इमारतें नहीं हैं।

Ans

- ✓ 1. केवल निष्कर्ष (II) कथनों के अनुसार है।
- ✗ 2. न तो निष्कर्ष (I) और न ही (II) कथनों के अनुसार है।
- ✗ 3. दोनों निष्कर्ष (I) और (II) कथनों के अनुसार हैं।
- ✗ 4. केवल निष्कर्ष (I) कथनों के अनुसार है।

Question ID : 264330155920

Option 1 ID : 264330611084

Option 2 ID : 264330611085

Option 3 ID : 264330611086

Option 4 ID : 264330611083

Status : Answered

Chosen Option : 1

Q.9 एक निश्चित कूट भाषा में, 'ATOM' को '9613' लिखा जाता है और 'BOAT' को '1938' लिखा जाता है। उसी कूट भाषा में 'B' को कैसे लिखा जाएगा?

Ans

- ✗ 1. 1
- ✓ 2. 8
- ✗ 3. 3
- ✗ 4. 9

Question ID : 264330151705

Option 1 ID : 264330594450

Option 2 ID : 264330594448

Option 3 ID : 264330594447

Option 4 ID : 264330594449

Status : Answered

Chosen Option : 2

Q.10 अंग्रेजी वर्णमाला क्रम के आधार पर दी गई श्रृंखला में प्रश्न चिह्न (?) के स्थान पर क्या आना चाहिए?

GUN, DWM, AYL, XAK, ?

Ans

- ✓ 1. UCJ
- ✗ 2. UBI
- ✗ 3. VCI
- ✗ 4. VBH

Question ID : 264330155805

Option 1 ID : 264330610624

Option 2 ID : 264330610626

Option 3 ID : 264330610625

Option 4 ID : 264330610623

Status : Answered

Chosen Option : 1

Q.11 अंग्रेजी वर्णमाला क्रम के आधार पर दी गई श्रृंखला में प्रश्न चिह्न (?) के स्थान पर क्या आना चाहिए?

TEO, RCM, PAK, NYI, ?

- Ans
- 1. KUH
 - 2. KVH
 - 3. LWG
 - 4. LVG

Question ID : 264330155769

Option 1 ID : 264330610480

Option 2 ID : 264330610481

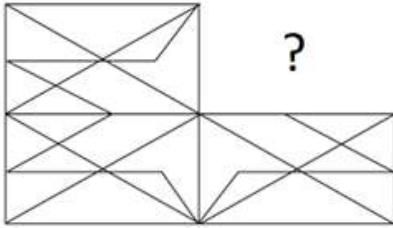
Option 3 ID : 264330610482

Option 4 ID : 264330610479

Status : Answered

Chosen Option : 3

Q.12 पैटर्न को पूरा करने वाली आकृति को पहचानिए (घूर्णन की अनुमति नहीं है)।



Ans

- 1.
- 2.
- 3.
- 4.

Question ID : 264330154519

Option 1 ID : 264330605542

Option 2 ID : 264330605539

Option 3 ID : 264330605540

Option 4 ID : 264330605541

Status : Answered

Chosen Option : 4

Q.13 एक निश्चित कूट भाषा में, 'YOU' को '20' लिखा जाता है और 'LIP' को '44' लिखा जाता है। उस कूट भाषा में 'ROB' को कैसे लिखा जाएगा?

- Ans**
- 1. 41
 - 2. 44
 - 3. 46
 - 4. 42

Question ID : 264330155820
Option 1 ID : 264330610686
Option 2 ID : 264330610683
Option 3 ID : 264330610684
Option 4 ID : 264330610685
Status : Answered
Chosen Option : 3

Q.14 यदि शब्द 'POCKET' के प्रत्येक अक्षर को अंग्रेज़ी वर्णमाला के क्रम में व्यवस्थित किया जाए तो कितने अक्षरों का स्थान अपरिवर्तित रहेगा?

- Ans**
- 1. तीन
 - 2. पांच
 - 3. एक
 - 4. दो

Question ID : 264330154322
Option 1 ID : 264330604753
Option 2 ID : 264330604754
Option 3 ID : 264330604751
Option 4 ID : 264330604752
Status : Answered
Chosen Option : 3

Q.15 निम्नलिखित संख्या-युग्मों में, पहली संख्या पर कुछ गणितीय संक्रियाएँ करके दूसरी संख्या प्राप्त की जाती है। उस समुच्चय को चुनिए जिसमें संख्याएँ ठीक उसी प्रकार संबंधित हैं जिस प्रकार निम्नलिखित समुच्चयों की संख्याएँ संबंधित हैं।

53, 90

79, 116

(ध्यान दें: संख्याओं को उनके घटक अंकों में अलग-अलग किए बिना, पूर्ण संख्याओं पर संक्रियाएँ की जानी चाहिए। उदा. 13 - संख्या 13 पर संक्रियाएँ जैसे 13 को जोड़ना/घटाना/गुणा करना आदि किया जा सकता है। 13 को 1 और 3 में अलग-अलग करने की ओर फिर 1 और 3 पर गणितीय संक्रियाएँ करने की अनुमति नहीं है।)

- Ans**
- 1. 59, 98
 - 2. 42, 59
 - 3. 47, 84
 - 4. 31, 94

Question ID : 264330154501
Option 1 ID : 264330605469
Option 2 ID : 264330605468
Option 3 ID : 264330605470
Option 4 ID : 264330605467
Status : Answered
Chosen Option : 3

Q.16 यदि निम्नलिखित आकृति श्रृंखला को जारी रखना हो तो कौन-सी आकृति प्रश्न चिन्ह (?) के स्थान पर आनी चाहिए?

K	R	4	2	
R	S	A	Q	4
Q	4	K	A	R
				S
				4
				A
				?

Ans

✗ 1.

A		
G	R	S
2		4

✗ 2.

4		
G	A	S
2		K

✗ 3.

4		
G	2	A
S		K

✓ 4.

S		
G	4	A
2		K

Question ID : 264330154759

Option 1 ID : 264330606500

Option 2 ID : 264330606502

Option 3 ID : 264330606501

Option 4 ID : 264330606499

Status : Answered

Chosen Option : 4

Q.17 दी गई श्रृंखला में प्रश्न चिह्न “?” के स्थान पर क्या आना चाहिए?

23 28 38 53 73 ?

Ans

✗ 1. 95

✓ 2. 98

✗ 3. 91

✗ 4. 101

Question ID : 264330151713

Option 1 ID : 264330594480

Option 2 ID : 264330594481

Option 3 ID : 264330594482

Option 4 ID : 264330594479

Status : Answered

Chosen Option : 2

Q.18 उस शब्द-युग्म का चयन कीजिए जो नीचे दिए गए शब्दों के युग्म में व्यक्त किए गए समान संबंध का सबसे अच्छा निरूपण करता है।

(शब्दों को अर्थपूर्ण हिंदी शब्दों के रूप में माना जाना चाहिए और उन्हें शब्द में अक्षरों की संख्या/व्यंजन/स्वरों की संख्या के आधार पर एक दूसरे से संबंधित नहीं किया जाना चाहिए।)

क्रिकेट : पिच

- Ans**
- 1. जहाज : बंदरगाह
 - 2. कुश्ती : ट्रैक
 - 3. मुक्केबाजी : रिंग
 - 4. नाव : पत्तन

Question ID : 264330154633

Option 1 ID : 264330605995

Option 2 ID : 264330605998

Option 3 ID : 264330605997

Option 4 ID : 264330605996

Status : Answered

Chosen Option : 3

Q.19 निम्नलिखित संख्या-युग्मों में, पहली संख्या पर कुछ गणितीय संक्रियाएँ करके दूसरी संख्या प्राप्त की जाती है। उस समुच्चय को चुनिए जिसमें संख्याएँ ठीक उसी प्रकार संबंधित हैं जिस प्रकार निम्नलिखित समुच्चयों की संख्याएँ संबंधित हैं।

(ध्यान दें: संख्याओं को उनके घटक अंकों में अलग-अलग किए बिना, पूर्ण संख्याओं पर संक्रियाएँ की जानी चाहिए। उदा. 13 - संख्या 13 पर संक्रियाएँ जैसे 13 को जोड़ना/घटाना/गुणा करना आदि किया जा सकता है। 13 को 1 और 3 में अलग-अलग करने की ओर फिर 1 और 3 पर गणितीय संक्रियाएँ करने की अनुमति नहीं है।)

7, 13

18, 35

- Ans**
- 1. 77, 98
 - 2. 32, 64
 - 3. 22, 43
 - 4. 44, 76

Question ID : 264330151624

Option 1 ID : 264330594126

Option 2 ID : 264330594124

Option 3 ID : 264330594123

Option 4 ID : 264330594125

Status : Answered

Chosen Option : 3

Q.20 यदि T का अर्थ 'A', 'A' का अर्थ 'B', 'B' का अर्थ 'C' और 'C' का अर्थ 'D' है, तो निम्नलिखित समीकरण में प्रश्न चिह्न (?) के स्थान पर क्या आएगा?

119 I (7 J 3) L (50 K 5) L 45 = ?

- Ans**
- 1. 75
 - 2. 80
 - 3. 85
 - 4. 70

Question ID : 264330151804

Option 1 ID : 264330594846

Option 2 ID : 264330594843

Option 3 ID : 264330594844

Option 4 ID : 264330594845

Status : Answered

Chosen Option : 3

Q.1 'एन अनसूटेबल बॉय' (An Unsuitable Boy) किसकी आत्मकथा का शीर्षक है?

- Ans
- 1. आदित्य चोपड़ा
 - 2. संजय कपूर
 - 3. करण जौहर
 - 4. हंसल मेहता

Question ID : 264330155448
Option 1 ID : 264330609195
Option 2 ID : 264330609198
Option 3 ID : 264330609197
Option 4 ID : 264330609196
Status : Answered
Chosen Option : 3

Q.2 पंडित जानकी प्रसाद का संबंध निम्नलिखित में से किस कथक घराने से है?

- Ans
- 1. रायगढ़
 - 2. जयपुर
 - 3. लखनऊ
 - 4. बनारस

Question ID : 264330160809
Option 1 ID : 264330630570
Option 2 ID : 264330630567
Option 3 ID : 264330630568
Option 4 ID : 264330630569
Status : Answered
Chosen Option : 4

Q.3 भारत में मानसून निवर्तन किस महीने के दौरान होता है?

- Ans
- 1. मई और जून
 - 2. मार्च और अप्रैल
 - 3. अक्टूबर और नवंबर
 - 4. जनवरी और फरवरी

Question ID : 264330160147
Option 1 ID : 264330627928
Option 2 ID : 264330627929
Option 3 ID : 264330627927
Option 4 ID : 264330627930
Status : Answered
Chosen Option : 3

Q.4 निम्नलिखित में से कौन-सा महात्मा गांधी के आदर्शों पर आधारित निदेशक सिद्धांत नहीं है?

- Ans 1. शहरी क्षेत्रों में औद्योगीकरण को बढ़ावा देना
 2. ग्रामीण क्षेत्रों में कुटीर उद्योगों को बढ़ावा देना
 3. स्वास्थ्य के लिए हानिकारक नशीले पेय और दवाओं पर रोक लगाना
 4. ग्राम पंचायतों का गठन करना

Question ID : 264330162251
Option 1 ID : 264330636334
Option 2 ID : 264330636332
Option 3 ID : 264330636333
Option 4 ID : 264330636331
Status : Answered
Chosen Option : 1

Q.5 पुरुषों के कबड्डी के मैदान (kabaddi court) की लंबाई _____ मीटर होती है।

- Ans 1. 15
 2. 10
 3. 13
 4. 17

Question ID : 264330158245
Option 1 ID : 264330620341
Option 2 ID : 264330620339
Option 3 ID : 264330620340
Option 4 ID : 264330620342
Status : Answered
Chosen Option : 1

Q.6 निम्नलिखित में से कौन-सा पश्चिमी तट बंदरगाह का उदाहरण है?

- Ans 1. तूलीकोरिन बंदरगाह
 2. पारादीप बंदरगाह
 3. मुंबई बंदरगाह
 4. विशाखापत्तनम बंदरगाह

Question ID : 264330160139
Option 1 ID : 264330627897
Option 2 ID : 264330627896
Option 3 ID : 264330627898
Option 4 ID : 264330627895
Status : Answered
Chosen Option : 3

Q.7 निम्नलिखित में से 'द ज़ोया फ़ैक्टर' पुस्तक की लेखिका कौन हैं?

- Ans
- 1. सुधा मूर्ति
 - 2. नंदिनी बाजपेयी
 - 3. अनुजा चौहान
 - 4. किरण देसाई

Question ID : 264330155458
Option 1 ID : 264330609236
Option 2 ID : 264330609237
Option 3 ID : 264330609238
Option 4 ID : 264330609235
Status : Answered
Chosen Option : 3

Q.8 भारतीय नृत्य का _____ शब्द संस्कृत शब्द से लिया गया है और इसका शाब्दिक अर्थ है 'की ओर ले जाना (taking towards)'।

- Ans
- 1. तांडव (Taandava)
 - 2. लास्या (Laasya)
 - 3. अभिनय (Abhinaya)
 - 4. नृत्ता (Nritta)

Question ID : 264330159047
Option 1 ID : 264330623550
Option 2 ID : 264330623547
Option 3 ID : 264330623548
Option 4 ID : 264330623549
Status : Answered
Chosen Option : 4

Q.9 निम्नलिखित में से कौन-सा महासागर पूर्व में उत्तरी अमेरिका और दक्षिण अमेरिका महाद्वीप से घिरा हुआ है?

- Ans
- 1. आर्कटिक महासागर
 - 2. अटलांटिक महासागर
 - 3. प्रशांत महासागर
 - 4. हिंद महासागर

Question ID : 264330161323
Option 1 ID : 264330632621
Option 2 ID : 264330632622
Option 3 ID : 264330632620
Option 4 ID : 264330632619
Status : Answered
Chosen Option : 2

Q.10 निम्नलिखित भारतीय गायकों में से किसे 'गज़ल किंग (Gazal King)' के नाम से जाना जाता है?

- Ans
- ✓ 1. जगजीत सिंह
 - ✗ 2. शैलेंद्र
 - ✗ 3. मन्ना डे
 - ✗ 4. मुकेश

Question ID : 264330162232
Option 1 ID : 264330636258
Option 2 ID : 264330636257
Option 3 ID : 264330636256
Option 4 ID : 264330636255
Status : Answered
Chosen Option : 3

Q.11 निम्नलिखित में से किसे नृत्य में उनके योगदान के लिए संगीत नाटक अकादमी पुरस्कार-2021 (फरवरी 2023 में दिया गया) नहीं मिला है?

- Ans
- ✗ 1. जयलक्ष्मी ईश्वर
 - ✗ 2. नीना प्रसाद
 - ✓ 3. सुमित्रा गुहा
 - ✗ 4. थोकचोम इबेमुबी देवी

Question ID : 264330157837
Option 1 ID : 264330618707
Option 2 ID : 264330618708
Option 3 ID : 264330618710
Option 4 ID : 264330618709
Status : Answered
Chosen Option : 2

Q.12 द्री (Dree) उत्सव _____ राज्य में मनाया जाता है।

- Ans
- ✗ 1. आंध्र प्रदेश
 - ✗ 2. असम
 - ✗ 3. केरल
 - ✓ 4. अरुणाचल प्रदेश

Question ID : 264330159082
Option 1 ID : 264330623687
Option 2 ID : 264330623688
Option 3 ID : 264330623690
Option 4 ID : 264330623689
Status : Answered
Chosen Option : 4

Q.13 किसी अर्थव्यवस्था में व्यक्तियों और व्यवसायों द्वारा अर्जित कुल आय को जोड़कर राष्ट्रीय आय की गणना करने के लिए निम्नलिखित में से किस विधि का उपयोग किया जाता है?

- Ans
- 1. व्यय विधि
 - 2. मूल्य-वर्धित विधि
 - 3. आउटपुट/उत्पाद विधि
 - 4. आय विधि

Question ID : 264330157315
Option 1 ID : 264330616624
Option 2 ID : 264330616626
Option 3 ID : 264330616625
Option 4 ID : 264330616623
Status : Answered
Chosen Option : 4

Q.14 भारत में सरकार के तीन स्तर कौन-से हैं?

- Ans
- 1. संघ सरकार, राज्य सरकार और संघीय सरकार
 - 2. संघ सरकार, राज्य सरकार और स्थानीय सरकार
 - 3. संघ सरकार, राज्य सरकार और न्यायपालिका सरकार
 - 4. संघ सरकार, न्यायपालिका सरकार और संघीय सरकार

Question ID : 264330161290
Option 1 ID : 264330632490
Option 2 ID : 264330632489
Option 3 ID : 264330632487
Option 4 ID : 264330632488
Status : Answered
Chosen Option : 1

Q.15 प्रसिद्ध 'पशुपतिनाथ मंदिर' निम्नलिखित में से किस देश में स्थित है ?

- Ans
- 1. श्रीलंका
 - 2. नेपाल
 - 3. मालदीव
 - 4. भूटान

Question ID : 264330161561
Option 1 ID : 264330633572
Option 2 ID : 264330633574
Option 3 ID : 264330633573
Option 4 ID : 264330633571
Status : Answered
Chosen Option : 2

Q.16 रोहित शर्मा अक्टूबर 2022 में कितने T20 क्रिकेट मैच खेलने वाले पहले भारतीय बने?

- Ans
- 1. 200
 - 2. 300
 - 3. 400
 - 4. 100

Question ID : 264330158361
Option 1 ID : 264330620804
Option 2 ID : 264330620805
Option 3 ID : 264330620806
Option 4 ID : 264330620803
Status : Answered
Chosen Option : 2

Q.17 रासायनिक आबंधों का बॉल और स्प्रिंग मॉडल (Ball and spring model) किसका पालन करता है?

- Ans
- 1. चार्ल्स का नियम
 - 2. गुरुत्वाकर्षण नियम
 - 3. न्यूटन का नियम
 - 4. हुक का नियम

Question ID : 264330156586

Option 1 ID : 264330613732

Option 2 ID : 264330613731

Option 3 ID : 264330613733

Option 4 ID : 264330613734

Status : Answered

Chosen Option : 4

Q.18 2023 में, स्पाइसजेट के प्रमुख अजय सिंह को निम्नलिखित में से किसके अध्यक्ष के रूप में नियुक्त किया गया था?

- Ans
- 1. एसोचैम (ASSOCHAM)
 - 2. सीआईआई (CII)
 - 3. नैसकॉम (NASSCOM)
 - 4. फिक्की (FICCI)

Question ID : 264330158348

Option 1 ID : 264330620752

Option 2 ID : 264330620753

Option 3 ID : 264330620754

Option 4 ID : 264330620751

Status : Answered

Chosen Option : 1

Q.19 हिंदू सुधार संगठन ब्रह्म समाज की स्थापना किसने की?

- Ans
- 1. राजा राम मोहन राय
 - 2. रामकृष्ण परमहंस
 - 3. रवीन्द्रनाथ टैगोर
 - 4. आत्माराम पांडुरंग

Question ID : 264330161745

Option 1 ID : 264330634308

Option 2 ID : 264330634307

Option 3 ID : 264330634309

Option 4 ID : 264330634310

Status : Answered

Chosen Option : 1

Q.20 कौन-सा भारतीय जन आंदोलन महात्मा गांधी के प्रसिद्ध 'दांडी मार्च' के साथ शुरू हुआ?

- Ans
- 1. खेड़ा आन्दोलन
 - 2. सविनय अवज्ञा आंदोलन
 - 3. असहयोग आंदोलन
 - 4. भारत छोड़ो आंदोलन

Question ID : 264330162326

Option 1 ID : 264330636634

Option 2 ID : 264330636633

Option 3 ID : 264330636632

Option 4 ID : 264330636631

Status : Answered

Chosen Option : 1

Q.21 निम्नलिखित में से किस वर्ष में पहला जनजातीय खेल महोत्सव आयोजित किया गया था?

- Ans 1. 2022
 2. 2020
 3. 2023
 4. 2021

Question ID : 264330161142
Option 1 ID : 264330631899
Option 2 ID : 264330631902
Option 3 ID : 264330631900
Option 4 ID : 264330631901
Status : Answered
Chosen Option : 4

Q.22 भारतीय नृत्य के किस रूप को 'कोमल और महिला प्रस्तुति के लिए उपयुक्त' कहा जाता है?

- Ans 1. तांडव (Taandava)
 2. नृत्ता (Nritta)
 3. नृत्य (Nritya)
 4. लास्या (Laasya)

Question ID : 264330161891
Option 1 ID : 264330634893
Option 2 ID : 264330634892
Option 3 ID : 264330634891
Option 4 ID : 264330634894
Status : Answered
Chosen Option : 4

Q.23 कोशिका भित्ति की अधिकांश यांत्रिक शक्ति (mechanical strength) के लिए उत्तरदायी प्राथमिक संरचनात्मक घटक कौन-सा है?

- Ans 1. ग्लाइकोजन
 2. हिपैरिन
 3. सेलुलोज
 4. काइटिन

Question ID : 264330161082
Option 1 ID : 264330631660
Option 2 ID : 264330631662
Option 3 ID : 264330631659
Option 4 ID : 264330631661
Status : Answered
Chosen Option : 3

Q.24 सांची स्तूप की नींव निम्नलिखित में से किस राजा द्वारा रखी गई थी?

- Ans 1. समुद्रगुप्त
 2. अशोक
 3. बिंबिसार
 4. चन्द्रगुप्त मौर्य

Question ID : 264330160758
Option 1 ID : 264330630365
Option 2 ID : 264330630366
Option 3 ID : 264330630363
Option 4 ID : 264330630364
Status : Answered
Chosen Option : 2

Q.25 वैयक्तिक आय (personal income) क्या है?

- Ans
- 1. व्यक्तियों द्वारा अपने स्वयं के व्यवसाय या स्वरोजगार के माध्यम से अर्जित आय
 - 2. किसी अर्थव्यवस्था में व्यवसायों और निगमों द्वारा अर्जित कुल आय
 - 3. करों और अन्य कटौतियों से पहले व्यक्तियों और परिवारों द्वारा अर्जित कुल आय
 - 4. करों और अन्य कटौतियों के बाद व्यक्तियों और परिवारों द्वारा अर्जित आय

Question ID : 264330157318

Option 1 ID : 264330616638

Option 2 ID : 264330616635

Option 3 ID : 264330616636

Option 4 ID : 264330616637

Status : Answered

Chosen Option : 4

Section : English Language and Comprehension

Q.1 Select the most appropriate synonym of the underlined word.
Ray was cynical about love.

- Ans
- 1. pessimistic
 - 2. trusting
 - 3. obese
 - 4. prolific

Question ID : 264330153520

Option 1 ID : 264330601591

Option 2 ID : 264330601592

Option 3 ID : 264330601593

Option 4 ID : 264330601594

Status : Answered

Chosen Option : 3

Q.2 Select the most appropriate option that can substitute the underlined segment in the given sentence. If there is no need to substitute it, select 'No substitution required'.
Larger emissions of greenhouse gases lead to higher concentrations in the atmosphere.

- Ans
- 1. leaded to higher concentrations
 - 2. have lead to higher concentrations
 - 3. is lead to higher concentrations
 - 4. No substitution required

Question ID : 264330151898

Option 1 ID : 264330595207

Option 2 ID : 264330595208

Option 3 ID : 264330595209

Option 4 ID : 264330595210

Status : Answered

Chosen Option : 4

Q.3 Choose the sentence that contains an error.

- Ans** ✓ 1. He is an lawyer who works for a prestigious law firm.
✗ 2. She is the only person who can solve this difficult math problem.
✗ 3. I saw a movie that was directed by Steven Spielberg.
✗ 4. The Great Wall of China is a popular tourist attraction.

Question ID : 264330155179
Option 1 ID : 264330608178
Option 2 ID : 264330608177
Option 3 ID : 264330608176
Option 4 ID : 264330608175
Status : Answered
Chosen Option : 1

Q.4 Select the most appropriate meaning of the underlined idiom.
He was on cloud nine when he got admission in Cambridge University.

- Ans** ✗ 1. available to be called to go to work
✗ 2. unsettled
✗ 3. involved in useless journey
✓ 4. very happy

Question ID : 264330153642
Option 1 ID : 264330602040
Option 2 ID : 264330602041
Option 3 ID : 264330602042
Option 4 ID : 264330602039
Status : Answered
Chosen Option : 4

Q.5 Select the most appropriate option that can rectify the underlined segment in the given sentence. If there is no need to rectify it, select 'no rectification needed'.

You are the beautiful woman I have ever seen.

- Ans** ✗ 1. no rectification needed
✗ 2. more beautiful
✓ 3. most beautiful
✗ 4. beauty

Question ID : 264330153465
Option 1 ID : 264330601378
Option 2 ID : 264330601377
Option 3 ID : 264330601376
Option 4 ID : 264330601375
Status : Answered
Chosen Option : 3

Q.6 Choose the option which best expresses the meaning of the given idiom.

By fair means or foul

- Ans** 1. To get one's way with honesty or dishonesty
 2. To provoke someone into quarrelling
 3. To find difficulty in completing some work
 4. To work without planning

Question ID : 264330153347

Option 1 ID : 264330600940

Option 2 ID : 264330600942

Option 3 ID : 264330600941

Option 4 ID : 264330600939

Status : Answered

Chosen Option : 1

Q.7 Select the option that can be used as a one-word substitute for the given group of words.

One who does not believe in the existence of God

- Ans** 1. Believer
 2. Priest
 3. Monk
 4. Atheist

Question ID : 264330153404

Option 1 ID : 264330601154

Option 2 ID : 264330601153

Option 3 ID : 264330601151

Option 4 ID : 264330601152

Status : Answered

Chosen Option : 4

Q.8 Select the option that can be used as a one-word substitute for the given group of words.

A person who feeds on human flesh

- Ans** 1. Nudge
 2. Cannibal
 3. Carnivore
 4. Omnivore

Question ID : 264330153405

Option 1 ID : 264330601156

Option 2 ID : 264330601157

Option 3 ID : 264330601155

Option 4 ID : 264330601158

Status : Answered

Chosen Option : 3

Q.9 Select the option that rectifies the spelling of the underlined word in the given sentence.

The company sent out a questionaire to its employees to gather feedback on their work environment.

- Ans
- 1. questionnire
 - 2. questioneire
 - 3. questionaiare
 - 4. questionnaire

Question ID : 264330153229
Option 1 ID : 264330600475
Option 2 ID : 264330600478
Option 3 ID : 264330600477
Option 4 ID : 264330600476
Status : Answered
Chosen Option : 1

Q.10 Select the most appropriate option that can substitute the underlined segment in the given sentence.

He apologised in her silently before he pushed deeper into her thoughts.

- Ans
- 1. apologised with her
 - 2. apologised of her
 - 3. apologise in her
 - 4. apologised to her

Question ID : 264330153476
Option 1 ID : 264330601420
Option 2 ID : 264330601419
Option 3 ID : 264330601421
Option 4 ID : 264330601422
Status : Answered
Chosen Option : 1

Q.11 Parts of the following sentence have been given as options. Select the option that contains an error.

Ishita will playing Tennis for her favourite team.

- Ans
- 1. Tennis for
 - 2. her favourite team
 - 3. will playing
 - 4. Ishita

Question ID : 264330152816
Option 1 ID : 264330598857
Option 2 ID : 264330598858
Option 3 ID : 264330598856
Option 4 ID : 264330598855
Status : Answered
Chosen Option : 3

Q.12 The following sentence has been split into four segments. Identify the segment that contains a grammatical error.

My younger daughter, / Kanu prefer / dark chocolate / to yoghurt.

- Ans
- 1. to yoghurt
 - 2. dark chocolate
 - 3. My younger daughter
 - 4. Kanu prefer

Question ID : 264330147603
Option 1 ID : 264330578634
Option 2 ID : 264330578633
Option 3 ID : 264330578631
Option 4 ID : 264330578632
Status : Answered
Chosen Option : 4

Q.13 Select the most appropriate synonym of the given word.
Determined

- Ans
- 1. Flexible
 - 2. Elevated
 - 3. Famous
 - 4. Decisive

Question ID : 264330151919
Option 1 ID : 264330595291
Option 2 ID : 264330595292
Option 3 ID : 264330595293
Option 4 ID : 264330595294
Status : Answered
Chosen Option : 4

Q.14 Select the correctly spelt word.

- Ans
- 1. Behaveor
 - 2. Bihavior
 - 3. Behaviour
 - 4. Behavier

Question ID : 264330153412
Option 1 ID : 264330601184
Option 2 ID : 264330601183
Option 3 ID : 264330601185
Option 4 ID : 264330601186
Status : Answered
Chosen Option : 3

Q.15 Select the most appropriate synonym of the given word.
Obvious

- Ans** 1. Opaque
 2. Clear
 3. Murky
 4. Ambiguous

Question ID : 264330151825
Option 1 ID : 264330594927
Option 2 ID : 264330594930
Option 3 ID : 264330594928
Option 4 ID : 264330594929
Status : Answered
Chosen Option : 2

Q.16 Select the INCORRECTLY spelt word.

- Ans** 1. Rhythm
 2. Friend
 3. Maintanance
 4. Important

Question ID : 264330152643
Option 1 ID : 264330598175
Option 2 ID : 264330598178
Option 3 ID : 264330598176
Option 4 ID : 264330598177
Status : Answered
Chosen Option : 3

Q.17 Select the most appropriate option to fill in the blank.

They are going to give me a lovely present, but I cannot ____ what it will be.

- Ans** 1. give
 2. guest
 3. guess
 4. gist

Question ID : 264330153496
Option 1 ID : 264330601502
Option 2 ID : 264330601499
Option 3 ID : 264330601500
Option 4 ID : 264330601501
Status : Answered
Chosen Option : 3

Q.18 Select the most appropriate meaning of the given idiom.
As phony as a three-dollar bill

- Ans 1. Something that is genuine
 2. Something that is fake
 3. Something that is attractive
 4. Something that is disgusting

Question ID : 264330153439
Option 1 ID : 264330601279
Option 2 ID : 264330601281
Option 3 ID : 264330601280
Option 4 ID : 264330601282
Status : Answered
Chosen Option : 2

Q.19 Select the option that can be used as a one-word substitute for the given group of words.

An examination of a body after death

- Ans 1. Post room
 2. Post death
 3. Post mortem
 4. Post partum

Question ID : 264330152588
Option 1 ID : 264330597958
Option 2 ID : 264330597956
Option 3 ID : 264330597957
Option 4 ID : 264330597955
Status : Answered
Chosen Option : 3

Q.20 Select the most appropriate meaning of the underlined idiom.
Ramesh always blows his own trumpet.

- Ans 1. does his own work
 2. depends on others
 3. praises himself
 4. criticises himself

Question ID : 264330152752
Option 1 ID : 264330598609
Option 2 ID : 264330598610
Option 3 ID : 264330598607
Option 4 ID : 264330598608
Status : Answered
Chosen Option : 3

Comprehension:

In the following passage some words have been deleted. Fill in the blanks with the help of the alternatives given. Select the most appropriate option for each number.

One of the (1)_____ tragedies is seeing someone with incredible talent get (2)_____ because he or she lacks some basic skills. This book (3)_____ the number one reason executives derail, and it provides extremely helpful tools to operate in a fast-paced, result-oriented environment. I am impressed by how insightful, (4)_____, well organised and focused it is. It will surely help one (5)_____ several difficult situations.

SubQuestion No : 21

Q.21 Select the most appropriate option to fill in blank number 1.

- Ans 1. greater
 2. greatest
 3. great
 4. more great

Question ID : 264330153590

Option 1 ID : 264330601848

Option 2 ID : 264330601849

Option 3 ID : 264330601847

Option 4 ID : 264330601850

Status : Answered

Chosen Option : 2

Comprehension:

In the following passage some words have been deleted. Fill in the blanks with the help of the alternatives given. Select the most appropriate option for each number.

One of the (1)_____ tragedies is seeing someone with incredible talent get (2)_____ because he or she lacks some basic skills. This book (3)_____ the number one reason executives derail, and it provides extremely helpful tools to operate in a fast-paced, result-oriented environment. I am impressed by how insightful, (4)_____, well organised and focused it is. It will surely help one (5)_____ several difficult situations.

SubQuestion No : 22

Q.22 Select the most appropriate option to fill in blank number 2.

- Ans 1. channelised
 2. damaged
 3. uplifted
 4. derailed

Question ID : 264330153591

Option 1 ID : 264330601853

Option 2 ID : 264330601851

Option 3 ID : 264330601852

Option 4 ID : 264330601854

Status : Answered

Chosen Option : 4

Comprehension:

In the following passage some words have been deleted. Fill in the blanks with the help of the alternatives given. Select the most appropriate option for each number.

One of the (1)_____ tragedies is seeing someone with incredible talent get (2)_____ because he or she lacks some basic skills. This book (3)_____ the number one reason executives derail, and it provides extremely helpful tools to operate in a fast-paced, result-oriented environment. I am impressed by how insightful, (4)_____, well organised and focused it is. It will surely help one (5)_____ several difficult situations.

SubQuestion No : 23

Q.23 Select the most appropriate option to fill in blank number 3.

- Ans
- 1. neglects
 - 2. devours
 - 3. addresses
 - 4. demeans

Question ID : 264330153592

Option 1 ID : 264330601856

Option 2 ID : 264330601857

Option 3 ID : 264330601855

Option 4 ID : 264330601858

Status : Answered

Chosen Option : 3

Comprehension:

In the following passage some words have been deleted. Fill in the blanks with the help of the alternatives given. Select the most appropriate option for each number.

One of the (1)_____ tragedies is seeing someone with incredible talent get (2)_____ because he or she lacks some basic skills. This book (3)_____ the number one reason executives derail, and it provides extremely helpful tools to operate in a fast-paced, result-oriented environment. I am impressed by how insightful, (4)_____, well organised and focused it is. It will surely help one (5)_____ several difficult situations.

SubQuestion No : 24

Q.24 Select the most appropriate option to fill in blank number 4.

- Ans
- 1. cumbersome
 - 2. pessimistic
 - 3. readable
 - 4. sophisticated

Question ID : 264330153593

Option 1 ID : 264330601859

Option 2 ID : 264330601861

Option 3 ID : 264330601860

Option 4 ID : 264330601862

Status : Answered

Chosen Option : 3

Comprehension:

In the following passage some words have been deleted. Fill in the blanks with the help of the alternatives given. Select the most appropriate option for each number.

One of the (1)_____ tragedies is seeing someone with incredible talent get (2)_____ because he or she lacks some basic skills. This book (3)_____ the number one reason executives derail, and it provides extremely helpful tools to operate in a fast-paced, result-oriented environment. I am impressed by how insightful, (4)_____, well organised and focused it is. It will surely help one (5)_____ several difficult situations.

SubQuestion No : 25

Q.25 Select the most appropriate option to fill in blank number 5.

- Ans
- 1. reject
 - 2. condemn
 - 3. salvage
 - 4. discourage

Question ID : 264330153594

Option 1 ID : 264330601863

Option 2 ID : 264330601866

Option 3 ID : 264330601864

Option 4 ID : 264330601865

Status : Answered

Chosen Option : 2

KD Job Updates

Multi Tasking Non Technical Staff and Havaladar CBIC and CBN Examination 2023

Roll Number	KD Job Updates
Candidate Name	KD Job Updates
Venue Name	Maa Santoshi Computers Pvt. Ltd.
Exam Date	08/09/2023
Exam Time	12:30 PM - 2:30 PM
Subject	MTS Non Tech Havaladar CBIC and CBN Examination 2023

Section : Numerical and Mathematical Ability

Q.1 एक नाव धारा के अनुकूल एक निश्चित दूरी 5 घंटे में तय करती है लेकिन धारा के प्रतिकूल प्रारंभिक बिंदु पर लौटने में 8 घंटे का समय लेती है। यदि धारा की चाल 6 km/h है, तो स्थिर जल में नाव की चाल ज्ञात कीजिए।

- Ans**
- 1. 39 km/h
 - 2. 13 km/h
 - 3. 78 km/h
 - 4. 26 km/h

Question ID : 264330153884
Option 1 ID : 264330603000
Option 2 ID : 264330603001
Option 3 ID : 264330602999
Option 4 ID : 264330603002
Status : Answered
Chosen Option : 4

Q.2 10.5 cm त्रिज्या और 13 cm तिर्यक ऊंचाई वाले एक लम्ब वृत्तीय शंकु का कुल पृष्ठीय क्षेत्रफल (cm^2 में) क्या है?
($\pi = \frac{22}{7}$ लीजिए)

- Ans**
- 1. 757.5
 - 2. 775.5
 - 3. 577.5
 - 4. 787.5

Question ID : 264330153790
Option 1 ID : 264330602624
Option 2 ID : 264330602626
Option 3 ID : 264330602625
Option 4 ID : 264330602623
Status : Answered
Chosen Option : 2

Q.3 एक विद्यार्थी द्वारा पांच विषयों में निम्नलिखित अंक प्राप्त किए गए।

विषय	अंक
भूगोल	42
इतिहास	43
नागरिक शास्त्र	51
हिन्दी	54
सीएस	50

विद्यार्थी द्वारा प्राप्त किए गए न्यूनतम और अधिकतम अंकों के बीच का अंतर कितना है?

- Ans
- ✓ 1. 12
 - ✗ 2. 2
 - ✗ 3. 4
 - ✗ 4. 10

Question ID : 264330156536

Option 1 ID : 264330613531

Option 2 ID : 264330613532

Option 3 ID : 264330613534

Option 4 ID : 264330613533

Status : Answered

Chosen Option : 1

Q.4 आयशा और रजिया एक काम को क्रमशः 50 दिन और 75 दिन में पूरा कर सकती हैं। यदि दोनों एक साथ मिलकर काम करें तो काम को पूरा करने में कितने दिनों का समय लगेगा?

- Ans
- ✓ 1. 30
 - ✗ 2. 28
 - ✗ 3. 32
 - ✗ 4. 25

Question ID : 264330155718

Option 1 ID : 264330610277

Option 2 ID : 264330610276

Option 3 ID : 264330610278

Option 4 ID : 264330610275

Status : Answered

Chosen Option : 1

Q.5 एक आदमी 1800 m लंबी सड़क को 6 मिनट में पार करता है। m/sec में उसकी चाल की गणना कीजिए।

- Ans
- ✗ 1. 8
 - ✗ 2. 6
 - ✗ 3. 4
 - ✓ 4. 5

Question ID : 264330156111

Option 1 ID : 264330611846

Option 2 ID : 264330611844

Option 3 ID : 264330611845

Option 4 ID : 264330611843

Status : Answered

Chosen Option : 4

Q.6 230, 276 और 322 का महत्तम समापवर्तक ज्ञात कीजिए।

- Ans
- 1. 12
 - 2. 23
 - 3. 46
 - 4. 14

Question ID : 264330156090
Option 1 ID : 264330611761
Option 2 ID : 264330611759
Option 3 ID : 264330611762
Option 4 ID : 264330611760
Status : Answered
Chosen Option : 3

Q.7 In a certain time, a sum becomes 5 times at the rate of 6% per annum on simple interest. At what rate of interest, the same sum becomes 8 times in the same duration?

- Ans
- 1. 10.5%
 - 2. 12.5%
 - 3. 8.5%
 - 4. 5.5%

Question ID : 264330155747
Option 1 ID : 264330610392
Option 2 ID : 264330610391
Option 3 ID : 264330610393
Option 4 ID : 264330610394
Status : Not Answered
Chosen Option : --

Q.8 स्टेशन A से B तक एक बस की चाल 55 km/h है, और स्टेशन B से स्टेशन A तक वापस आते समय, बस की चाल 95 km/h है। पूरी यात्रा के दौरान बस की औसत चाल (km/h में) कितनी है?

- Ans
- 1. $67\frac{1}{3}$
 - 2. $69\frac{2}{3}$
 - 3. $72\frac{1}{3}$
 - 4. $62\frac{2}{3}$

Question ID : 264330156512
Option 1 ID : 264330613435
Option 2 ID : 264330613437
Option 3 ID : 264330613438
Option 4 ID : 264330613436
Status : Answered
Chosen Option : 2

Q.9 A और B क्रमशः 6 और 12 दिनों में एक काम कर सकते हैं। यदि वे एक दिन छोड़कर काम करते हैं और A पहले दिन काम शुरू करता है, तो काम कितने दिनों में पूरा होगा?

Ans

1. $8\frac{1}{2}$
 2. 9
 3. $9\frac{1}{2}$
 4. 8

Question ID : 264330153855

Option 1 ID : 264330602886

Option 2 ID : 264330602883

Option 3 ID : 264330602884

Option 4 ID : 264330602885

Status : Answered

Chosen Option : 4

Q.10 45 m × 35 m आयाम के एक आयताकार क्षेत्र के बाहर 2.5 m समान चौड़ाई का एक पथ है। पथ का क्षेत्रफल (m^2 में) क्या है?

Ans

1. 525
 2. 425
 3. 475
 4. 500

Question ID : 264330153787

Option 1 ID : 264330602611

Option 2 ID : 264330602613

Option 3 ID : 264330602614

Option 4 ID : 264330602612

Status : Answered

Chosen Option : 2

Q.11 एक कंपनी की आय में 25% की वार्षिक वृद्धि होती है। यदि वर्ष 1999 में कंपनी की आय ₹26,64,000 है, तो वर्ष 1997 में उसकी आय क्या थी?

Ans

1. ₹ 15,50,000
 2. ₹ 17,04,960
 3. ₹ 16,50,000
 4. ₹ 17,50,000

Question ID : 264330156072

Option 1 ID : 264330611690

Option 2 ID : 264330611688

Option 3 ID : 264330611689

Option 4 ID : 264330611687

Status : Answered

Chosen Option : 2

Q.12 एक व्यक्ति ने अपनी साइकिल 17% हानि पर बेची। यदि उसने इसे ₹1,056 अधिक में बेचा होता, तो उसे 5% का लाभ होता। साइकिल का क्रय मूल्य क्या है?

- Ans**
- 1. ₹3,800
 - 2. ₹4,800
 - 3. ₹4,700
 - 4. ₹5,100

Question ID : 264330154080

Option 1 ID : 264330603783

Option 2 ID : 264330603786

Option 3 ID : 264330603784

Option 4 ID : 264330603785

Status : Answered

Chosen Option : 2

Q.13 ₹185 प्रति किलोग्राम वाले चावल को ₹95 प्रति किलोग्राम वाले चावल के साथ किस अनुपात में मिलाया जाए ताकि मिश्रण को ₹140 प्रति किलोग्राम की दर से बेचने पर 40% का लाभ हो?

- Ans**
- 1. 2 : 13
 - 2. 3 : 23
 - 3. 2 : 19
 - 4. 1 : 17

Question ID : 264330154079

Option 1 ID : 264330603782

Option 2 ID : 264330603780

Option 3 ID : 264330603779

Option 4 ID : 264330603781

Status : Answered

Chosen Option : 4

Q.14 20 पारियों में एक बल्लेबाज का औसत 41 रन है। अगली पारी में उसने 41 रन बनाए। उसका नया औसत क्या होगा?

- Ans**
- 1. 38
 - 2. 39
 - 3. 36
 - 4. 41

Question ID : 264330156212

Option 1 ID : 264330612248

Option 2 ID : 264330612249

Option 3 ID : 264330612247

Option 4 ID : 264330612250

Status : Answered

Chosen Option : 4

Q.15 तीन संख्याएँ 5 : 2 : 7 के अनुपात में हैं। उनके वर्गों का योग 3822 है। सबसे बड़ी संख्या क्या है?

- Ans
- 1. 35
 - 2. 78
 - 3. 38
 - 4. 49

Question ID : 264330154047
Option 1 ID : 264330603654
Option 2 ID : 264330603653
Option 3 ID : 264330603651
Option 4 ID : 264330603652
Status : Answered
Chosen Option : 4

Q.16 एक व्यापारी ₹3,600 में कुछ सामान खरीदता है। यदि उसका अतिरिक्त व्यय क्रय मूल्य का 5% है, तो 15% अर्जित करने के लिए सामान को किस मूल्य पर बेचा जाना चाहिए?

- Ans
- 1. ₹4,734
 - 2. ₹4,437
 - 3. ₹4,347
 - 4. ₹4,743

Question ID : 264330159025
Option 1 ID : 264330623462
Option 2 ID : 264330623459
Option 3 ID : 264330623461
Option 4 ID : 264330623460
Status : Answered
Chosen Option : 3

Q.17 यदि ₹10,200 का $1\frac{1}{2}$ वर्ष के लिए 8% वार्षिक चक्रवृद्धि ब्याज की दर से निवेश किया जाता है और जब ब्याज अर्धवार्षिक रूप से संयोजित होता है, तो परिपक्वता के बाद धनराशि ज्ञात कीजिए (दशमलव के दो स्थानों तक)।

- Ans
- 1. ₹11,743.61
 - 2. ₹11,764.28
 - 3. ₹11,473.61
 - 4. ₹11,347.28

Question ID : 264330156363
Option 1 ID : 264330612854
Option 2 ID : 264330612853
Option 3 ID : 264330612852
Option 4 ID : 264330612851
Status : Answered
Chosen Option : 3

Q.18 Among four numbers the sum of the smallest and largest is 72 more than the sum of middle two numbers . If the numbers are in the ratio 6 : 7 : 15 : 19, then the smallest number is:

- Ans
- 1. 168
 - 2. 144
 - 3. 216
 - 4. 72

Question ID : 264330154051

Option 1 ID : 264330603668

Option 2 ID : 264330603669

Option 3 ID : 264330603667

Option 4 ID : 264330603670

Status : Answered

Chosen Option : 2

Q.19 निम्नलिखित व्यंजक को सरल करने पर, हमें _____ प्राप्त होता है।

$$\frac{24\sqrt{45} - 16\sqrt{20} + \sqrt{245} - 47\sqrt{5}}{3\frac{1}{5} + 1\frac{2}{5} - 2\frac{1}{6} - 2\frac{1}{5} - 5\frac{2}{5} + 3\frac{1}{6}}$$

- Ans
- 1. 0
 - 2. 3
 - 3. 2
 - 4. 1

Question ID : 264330154114

Option 1 ID : 264330603922

Option 2 ID : 264330603919

Option 3 ID : 264330603920

Option 4 ID : 264330603921

Status : Answered

Chosen Option : 1

Q.20 एक सप्ताह के दिनों में टिकटों की बिक्री (हजारों में) को वृत्त आलेख में दर्शाया गया है।



संदर्भ: Sales – बिक्री, Monday - सोमवार, Tuesday - मंगलवार, Wednesday - बुधवार, Thursday - गुरुवार, Friday - शुक्रवार, Saturday - शनिवार, Sunday - रविवार
किन दिनों द्वारा केंद्र पर बना संयुक्त कोण शनिवार द्वारा बने कोण के बराबर है?

- Ans
- ✓ 1. रविवार, सोमवार और मंगलवार
 - ✗ 2. मंगलवार, बुधवार और गुरुवार
 - ✗ 3. सोमवार, मंगलवार और बुधवार
 - ✗ 4. बुधवार, गुरुवार और शुक्रवार

Question ID : 264330153823
Option 1 ID : 264330602758
Option 2 ID : 264330602756
Option 3 ID : 264330602755
Option 4 ID : 264330602757
Status : Answered
Chosen Option : 1

Section : Reasoning Ability and Problem Solving

Q.1 दी गई श्रृंखला में प्रश्न चिन्ह '?' के स्थान पर क्या आना चाहिए?

20 54 156 ? 1380 4134 12396

- Ans
- ✗ 1. 506
 - ✗ 2. 474
 - ✓ 3. 462
 - ✗ 4. 358

Question ID : 264330151448
Option 1 ID : 264330593422
Option 2 ID : 264330593421
Option 3 ID : 264330593420
Option 4 ID : 264330593419
Status : Answered
Chosen Option : 3

Q.2 यदि F का अर्थ -, C का अर्थ ×, D का अर्थ +, A का अर्थ = है, तो निम्नलिखित समीकरण में प्रश्न चिह्न (?) के स्थान पर क्या आएगा?
65 A 39 D 3 F 23 C 2 = ?

- Ans
- ✓ 1. 32
 - ✗ 2. 64
 - ✗ 3. 56
 - ✗ 4. 42

Question ID : 264330154689
Option 1 ID : 264330606219
Option 2 ID : 264330606222
Option 3 ID : 264330606221
Option 4 ID : 264330606220
Status : Answered
Chosen Option : 1

Q.3 उस शब्द-युग्म का चयन कीजिए जो नीचे दिए गए शब्दों के युग्म में व्यक्त किए गए समान संबंध का सबसे अच्छा निरूपण करता है।

(शब्दों को अर्थपूर्ण हिंदी शब्दों के रूप में माना जाना चाहिए और उन्हें शब्द में अक्षरों की संख्या/व्यंजन/स्वरों की संख्या के आधार पर एक दूसरे से संबंधित नहीं किया जाना चाहिए।)

पत्राचार : पत्र

- Ans
- ✗ 1. मध्यस्थता : विवाद
 - ✗ 2. उल्लंघन : सीमाएं
 - ✓ 3. वस्तु विनिमय : वस्तुएं
 - ✗ 4. वाद-विवाद : समस्याएं

Question ID : 264330154639
Option 1 ID : 264330606019
Option 2 ID : 264330606020
Option 3 ID : 264330606022
Option 4 ID : 264330606021
Status : Answered
Chosen Option : 3

Q.4 दी गई श्रृंखला में प्रश्न चिह्न '?' के स्थान पर क्या आना चाहिए?

2 16 86 436 2186 ?

- Ans
- ✗ 1. 11486
 - ✓ 2. 10936
 - ✗ 3. 10578
 - ✗ 4. 11032

Question ID : 264330151463
Option 1 ID : 264330593482
Option 2 ID : 264330593480
Option 3 ID : 264330593479
Option 4 ID : 264330593481
Status : Answered
Chosen Option : 2

Q.5 एक निश्चित तर्क के अनुसार 16, 29 से संबंधित है। समान तर्क के अनुसार, 85, 98 से संबंधित है। समान तर्क का अनुसरण करते हुए 53 निम्नलिखित में से किससे संबंधित है?

- Ans**
- 1. 68
 - 2. 66
 - 3. 64
 - 4. 62

Question ID : 264330151594
Option 1 ID : 264330594006
Option 2 ID : 264330594005
Option 3 ID : 264330594004
Option 4 ID : 264330594003
Status : Answered
Chosen Option : 2

Q.6 अंग्रेजी वर्णमाला क्रम के आधार पर दी गई श्रृंखला में प्रश्न चिह्न (?) के स्थान पर क्या आना चाहिए?

LVE, IUC, FTZ, CSW, ?

- Ans**
- 1. ZRT
 - 2. YQW
 - 3. ZQW
 - 4. YSX

Question ID : 264330155790
Option 1 ID : 264330610565
Option 2 ID : 264330610564
Option 3 ID : 264330610566
Option 4 ID : 264330610563
Status : Answered
Chosen Option : 1

Q.7 अबीर, बेला, दीपा, फरहीन, हीरा और गिरीश एक वृत्ताकार मेज के चारों ओर केंद्र की ओर मुख करके बैठे हैं। गिरीश, दीपा के दाईं ओर से दूसरे स्थान पर बैठा है। फरहीन, गिरीश के ठीक बाईं ओर बैठी है। बेला, फरहीन के दाईं ओर से दूसरे स्थान पर बैठी है। हीरा, दीपा का निकटतम पड़ोसी है। बेला के ठीक दाईं ओर कौन बैठा है?

- Ans**
- 1. गिरीश
 - 2. दीपा
 - 3. अबीर
 - 4. हीरा

Question ID : 264330155656
Option 1 ID : 264330610030
Option 2 ID : 264330610027
Option 3 ID : 264330610029
Option 4 ID : 264330610028
Status : Answered
Chosen Option : 3

Q.8 नीचे दिए गए कथन/कथनों और निष्कर्षों को ध्यानपूर्वक पढ़िए। आपको मानना है कि दिए गए कथन सत्य हैं चाहे वे समान्यतः ज्ञात तथ्यों से अलग प्रतीत होते हों। आपको निश्चय करना है कि कौन-सा/कौन-से निष्कर्ष तार्किक रूप से दिए गए कथन/कथनों के अनुसार है/हैं।
कथन: सभी पेंसिलें, कलमें हैं। सभी कलमें, स्याही हैं।
निष्कर्ष:

- (I) सभी पेंसिलें, स्याही हैं।
(II) कुछ स्याही, पेंसिलें हैं।

- Ans**
- ✓ 1. दोनों निष्कर्ष (I) और (II) कथनों के अनुसार हैं।
 - ✗ 2. केवल निष्कर्ष (II) कथनों के अनुसार है।
 - ✗ 3. न तो निष्कर्ष (I) और न ही (II) कथनों के अनुसार है।
 - ✗ 4. केवल निष्कर्ष (I) कथनों के अनुसार है।

Question ID : 264330154427

Option 1 ID : 264330605174

Option 2 ID : 264330605172

Option 3 ID : 264330605173

Option 4 ID : 264330605171

Status : Answered

Chosen Option : 1

Q.9 यदि शब्द 'DURATION' के प्रत्येक अक्षर को अंग्रेज़ी वर्णमाला के क्रम में व्यवस्थित किया जाए तो कितने अक्षरों का स्थान अपरिवर्तित रहेगा?

- Ans**
- ✓ 1. किसी का भी नहीं
 - ✗ 2. चार
 - ✗ 3. एक
 - ✗ 4. पांच

Question ID : 264330154329

Option 1 ID : 264330604781

Option 2 ID : 264330604780

Option 3 ID : 264330604782

Option 4 ID : 264330604779

Status : Answered

Chosen Option : 1

Q.10 अक्षरों के उस संयोजन को चुनिए जिसे दी गई श्रृंखला के रिक्त स्थानों में क्रमिक रूप से रखने पर श्रृंखला पूरी हो जाएगी।

J _ K _ KJ _ K _ _ K

- Ans**
- ✓ 1. KJKJK
 - ✗ 2. KJKJ
 - ✗ 3. JJKJK
 - ✗ 4. JKJKJ

Question ID : 264330151645

Option 1 ID : 264330594208

Option 2 ID : 264330594207

Option 3 ID : 264330594209

Option 4 ID : 264330594210

Status : Answered

Chosen Option : 1

Q.11 निम्नलिखित संख्या-युग्मों में, पहली संख्या पर कुछ गणितीय संक्रियाएँ करके दूसरी संख्या प्राप्त की जाती है। उस समुच्चय को चुनिए जिसमें संख्याएँ ठीक उसी प्रकार संबंधित हैं जिस प्रकार निम्नलिखित समुच्चयों की संख्याएँ संबंधित हैं।

(ध्यान दें: संख्याओं को उनके घटक अंकों में अलग-अलग किए बिना, पूर्ण संख्याओं पर संक्रियाएँ की जानी चाहिए। उदा. 13 – संख्या 13 पर संक्रियाएँ जैसे 13 को जोड़ना/घटाना/गुणा करना आदि किया जा सकता है। 13 को 1 और 3 में अलग-अलग करने की ओर फिर 1 और 3 पर गणितीय संक्रियाएँ करने की अनुमति नहीं है।)

2, 7

5, 16

- Ans
- 1. 20, 58
 - 2. 14, 45
 - 3. 15, 46
 - 4. 11, 23

Question ID : 264330151625

Option 1 ID : 264330594130

Option 2 ID : 264330594128

Option 3 ID : 264330594129

Option 4 ID : 264330594127

Status : Answered

Chosen Option : 3

Q.12 अंग्रेजी वर्णमाला क्रम के आधार पर दी गई श्रृंखला में प्रश्न चिह्न (?) के स्थान पर क्या आना चाहिए?

JAS, HDV, FGY, DJB, ?

- Ans
- 1. CNF
 - 2. CMG
 - 3. DNE
 - 4. BME

Question ID : 264330155794

Option 1 ID : 264330610580

Option 2 ID : 264330610579

Option 3 ID : 264330610582

Option 4 ID : 264330610581

Status : Answered

Chosen Option : 4

Q.13 दी गई श्रृंखला में प्रश्न चिह्न “?” के स्थान पर क्या आना चाहिए?

37 36 33 32 29 ?

- Ans
- 1. 28
 - 2. 24
 - 3. 26
 - 4. 27

Question ID : 264330151719

Option 1 ID : 264330594506

Option 2 ID : 264330594505

Option 3 ID : 264330594504

Option 4 ID : 264330594503

Status : Answered

Chosen Option : 1

Q.14 यदि 'A' का अर्थ '+', 'B' का अर्थ 'x', 'C' का अर्थ '-' और 'D' का अर्थ '÷' है, तो निम्नलिखित समीकरण में प्रश्न चिन्ह (?) के स्थान पर क्या आएगा?
(54 A 9) C 34 D (10 B 3) C 46 D 16 = ?

- Ans
- 1. 46
 - 2. 32
 - 3. 40
 - 4. 54

Question ID : 264330151793
Option 1 ID : 264330594799
Option 2 ID : 264330594800
Option 3 ID : 264330594801
Option 4 ID : 264330594802
Status : Answered
Chosen Option : 3

Q.15 एक निश्चित कूट भाषा में, 'YOJ' को 'BRM' लिखा जाता है और 'DSP' को 'GVS' लिखा जाता है। उस कूट भाषा में 'ZMC' को कैसे लिखा जाएगा?

- Ans
- 1. CQF
 - 2. DQE
 - 3. CPF
 - 4. DPG

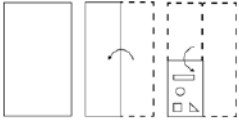
Question ID : 264330155832
Option 1 ID : 264330610732
Option 2 ID : 264330610733
Option 3 ID : 264330610734
Option 4 ID : 264330610731
Status : Answered
Chosen Option : 3

Q.16 एक निश्चित कूट भाषा में, 'good vibes only' को 'vn mj kl' लिखा जाता है और 'change is good' को 'mj ro dh' लिखा जाता है। उसी कूट भाषा में 'good' को कैसे लिखा जाएगा?

- Ans
- 1. dh
 - 2. ro
 - 3. vn
 - 4. mj

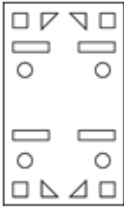
Question ID : 264330151688
Option 1 ID : 264330594381
Option 2 ID : 264330594382
Option 3 ID : 264330594380
Option 4 ID : 264330594379
Status : Answered
Chosen Option : 4

Q.17 निम्नलिखित आकृतियों में एक कागज़ के टुकड़े को मोड़ने के क्रम और मुड़े हुए कागज़ को काटने के तरीके को दर्शाया गया है। खोलने पर यह कागज़ कैसा दिखाई देगा?

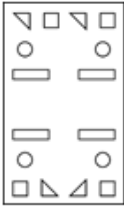


Ans

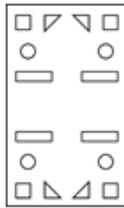
1.



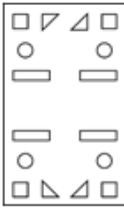
2.



3.



4.



KD Job Updates

Question ID : 264330155606

Option 1 ID : 264330609827

Option 2 ID : 264330609828

Option 3 ID : 264330609829

Option 4 ID : 264330609830

Status : Answered

Chosen Option : 3

Q.18 नीचे दिए गए कथनों और निष्कर्षों को ध्यानपूर्वक पढ़िए। आपको मानना है कि दिए गए कथन सत्य हैं चाहे वे समान्यतः ज्ञात तथ्यों से अलग प्रतीत होते हों। आपको निश्चय करना है कि कौन-सा/कौन-से निष्कर्ष तार्किक रूप से दिए गए कथनों के अनुसार है/हैं।

कथन: कुछ बिस्तर, टेलीफोन हैं। सभी टेलीफोन, तकिए हैं। कुछ तकिए, अलमारियां हैं।

निष्कर्ष I: कुछ तकिए, टेलीफोन हैं।

निष्कर्ष II: कुछ बिस्तर, तकिए हैं।

Ans

- 1. केवल निष्कर्ष (I) कथनों के अनुसार है।
- 2. केवल निष्कर्ष (II) कथनों के अनुसार है।
- 3. न तो निष्कर्ष (I) और न ही (II) कथनों के अनुसार है।
- 4. दोनों निष्कर्ष (I) और (II) कथनों के अनुसार हैं।

Question ID : 264330155914

Option 1 ID : 264330611059

Option 2 ID : 264330611060

Option 3 ID : 264330611061

Option 4 ID : 264330611062

Status : Answered

Chosen Option : 4

KD Job Updates

Q.19 यदि निम्नलिखित आकृति श्रृंखला को जारी रखना हो तो कौन-सी आकृति प्रश्न चिन्ह (?) के स्थान पर आनी चाहिए?

△	G	S	S	7	B	2	△	7	7	S	G	
	B		△			G		2				?
	7		G			S		△				

Ans

✗ 1.

↑	△	7
	S	
	2	

✗ 2.

↑	7	S
	△	
	G	

✗ 3.

↑	7	S
	△	
	2	

✓ 4.

↑	2	S
	△	
	7	

Question ID : 264330154765

Option 1 ID : 264330606524

Option 2 ID : 264330606523

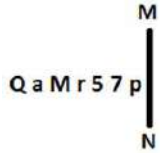
Option 3 ID : 264330606526

Option 4 ID : 264330606525

Status : Answered

Chosen Option : 4

Q.20 दी गई आकृति के उस सही दर्पण प्रतिबिंब को चुनिए, जो नीचे दर्शाए गए अनुसार दर्पण को MN पर रखने पर बनेगा।



- Ans
- ✓ 1. q 7 2 1 M 6 0
 - ✗ 2. q 7 5 1 M a 0
 - ✗ 3. q 7 5 1 M 6 0
 - ✗ 4. q 7 2 1 W e 0

Question ID : 264330151524

Option 1 ID : 264330593726

Option 2 ID : 264330593724

Option 3 ID : 264330593723

Option 4 ID : 264330593725

Status : Answered

Chosen Option : 1

Section : General Awareness

Q.1 रुक्मिणी देवी अरुंडेल का संबंध किस भारतीय शास्त्रीय नृत्य शैली से है?

- Ans
- ✗ 1. कथक
 - ✗ 2. मणिपुरी
 - ✓ 3. भरतनाट्यम
 - ✗ 4. मोहिनीअट्टम

Question ID : 264330155520

Option 1 ID : 264330609486

Option 2 ID : 264330609485

Option 3 ID : 264330609483

Option 4 ID : 264330609484

Status : Answered

Chosen Option : 3

Q.2 'विंग्स ऑफ फायर: एन आटोबायोग्राफी' किसकी आत्मकथा का शीर्षक है?

- Ans
- ✓ 1. ए.पी.जे. अब्दुल कलाम
 - ✗ 2. राजेंद्र सिंह
 - ✗ 3. ई. श्रीधरन
 - ✗ 4. सत्यभामा दास बीजू

Question ID : 264330155446

Option 1 ID : 264330609187

Option 2 ID : 264330609189

Option 3 ID : 264330609188

Option 4 ID : 264330609190

Status : Answered

Chosen Option : 1

Q.3 IUPAC नामकरण प्रणाली के अनुसार, किस क्रियात्मक समूह की विशेषता -OH समूह की उपस्थिति है, जो आमतौर पर पानी की तरह मुड़े हुए आकार (water-like bent shape) में होता है?

- Ans
- 1. ऐमीन
 - 2. कार्बोनिल
 - 3. एस्टर
 - 4. एल्कोहॉल

Question ID : 264330161051
Option 1 ID : 264330631538
Option 2 ID : 264330631536
Option 3 ID : 264330631537
Option 4 ID : 264330631535
Status : Answered
Chosen Option : 4

Q.4 भारत की जनगणना 2011 के अनुसार, किस केंद्र शासित प्रदेश में सबसे कम जनसंख्या वृद्धि दर दर्ज की गई?

- Ans
- 1. दिल्ली
 - 2. दमन और दीव
 - 3. लक्षद्वीप
 - 4. चंडीगढ़

Question ID : 264330161553
Option 1 ID : 264330633541
Option 2 ID : 264330633539
Option 3 ID : 264330633540
Option 4 ID : 264330633542
Status : Answered
Chosen Option : 3

Q.5 आर्म्स एक्ट (Arms Act) और वर्नाक्यूलर प्रेस एक्ट (Vernacular Press Act) किस वर्ष पारित किए गए थे?

- Ans
- 1. 1879
 - 2. 1878
 - 3. 1877
 - 4. 1876

Question ID : 264330160876
Option 1 ID : 264330630838
Option 2 ID : 264330630837
Option 3 ID : 264330630836
Option 4 ID : 264330630835
Status : Answered
Chosen Option : 2

Q.6 _____ कथक नृत्य शैली की एक महान हस्ती थीं, जिसे रवीन्द्रनाथ टैगोर ने 'नृत्य साम्राज्ञी (Nriitya Samragini)' (नृत्य की महारानी) के रूप में वर्णित किया था।

- Ans 1. सितारा देवी
 2. मल्लिका साराभाई
 3. रुक्मिणी देवी अरुंडेल
 4. मृणालिनी साराभाई

Question ID : 264330160811
Option 1 ID : 264330630577
Option 2 ID : 264330630576
Option 3 ID : 264330630575
Option 4 ID : 264330630578
Status : Answered
Chosen Option : 1

Q.7 'चपचार कुट (Chapchar Kut)' _____ राज्य का एक त्योहार है। यह झूम ऑपरेशन (Jhum operation) के सबसे कठिन कार्य यानी जंगल साफ़ करने (जलने के अवशेषों को साफ़ करना) के पूरा होने के बाद मार्च के दौरान मनाया जाता है।

- Ans 1. मिज़ोरम
 2. छत्तीसगढ़
 3. नगालैंड
 4. झारखंड

Question ID : 264330160822
Option 1 ID : 264330630622
Option 2 ID : 264330630621
Option 3 ID : 264330630619
Option 4 ID : 264330630620
Status : Answered
Chosen Option : 1

Q.8 निम्नलिखित में से कौन-सी दुनिया की सबसे ऊंची नौगम्य झील (highest navigable lake) है?

- Ans 1. ह्यूरोन (Huron)
 2. टिटिकाका (Titicaca)
 3. सुपीरियर (Superior)
 4. कोमो (Como)

Question ID : 264330161324
Option 1 ID : 264330632625
Option 2 ID : 264330632624
Option 3 ID : 264330632623
Option 4 ID : 264330632626
Status : Answered
Chosen Option : 1

Q.9 काजीरंगा राष्ट्रीय उद्यान भारत के किस राज्य में स्थित है?

- Ans
- 1. गुजरात
 - 2. कर्नाटक
 - 3. पश्चिम बंगाल
 - 4. असम

Question ID : 264330161497
Option 1 ID : 264330633317
Option 2 ID : 264330633316
Option 3 ID : 264330633318
Option 4 ID : 264330633315
Status : Answered
Chosen Option : 4

Q.10 2023 विश्व स्क्वैश चैम्पियनशिप (2023 World Squash Championship) निम्नलिखित में से किस राज्य में आयोजित की गई थी?

- Ans
- 1. तमिलनाडु
 - 2. कर्नाटक
 - 3. ओडिशा
 - 4. केरल

Question ID : 264330161143
Option 1 ID : 264330631905
Option 2 ID : 264330631903
Option 3 ID : 264330631904
Option 4 ID : 264330631906
Status : Answered
Chosen Option : 1

Q.11 मन्ना डे (Manna Dey) _____ के क्षेत्र में भारत की एक मशहूर शख्सियत थे।

- Ans
- 1. राजनीति
 - 2. विज्ञान
 - 3. खेल
 - 4. संगीत

Question ID : 264330155512
Option 1 ID : 264330609452
Option 2 ID : 264330609453
Option 3 ID : 264330609454
Option 4 ID : 264330609451
Status : Answered
Chosen Option : 4

Q.12 11वां मौलिक कर्तव्य _____ आयु वर्ग के बच्चों के लिए शिक्षा के अवसर प्रदान करता है।

Ans 1. 6-14

2. 5-15

3. 2-11

4. 6-18

Question ID : 264330159901

Option 1 ID : 264330626952

Option 2 ID : 264330626954

Option 3 ID : 264330626953

Option 4 ID : 264330626951

Status : Answered

Chosen Option : 1

Q.13 2023 आईएसएसएफ जूनियर विश्व कप चैंपियनशिप (2023 ISSF Junior World Cup Championships) में किस स्पर्धा में अमनप्रीत सिंह ने भारत के लिए स्वर्ण पदक जीता?

Ans 1. पुरुषों की 25 मीटर रैपिड फायर पिस्टल

2. पुरुषों की 10 मीटर एयर राइफल

3. पुरुषों की 25 मीटर पिस्टल

4. पुरुषों की 10 मीटर एयर पिस्टल टीम

Question ID : 264330161141

Option 1 ID : 264330631897

Option 2 ID : 264330631896

Option 3 ID : 264330631895

Option 4 ID : 264330631898

Status : Answered

Chosen Option : 1

Q.14 गॉलजी उपकरण में मौजूद चपटी झिल्ली से घिरी थैलियां किस नाम से जानी जाती हैं?

Ans 1. क्रिस्टी (Cristae)

2. पीठिका (Stroma)

3. पटलिका (Lamellae)

4. कुंड (Cisternae)

Question ID : 264330161083

Option 1 ID : 264330631665

Option 2 ID : 264330631666

Option 3 ID : 264330631663

Option 4 ID : 264330631664

Status : Answered

Chosen Option : 4

Q.15 मुमताज खान को 2022 में 'FIH वुमन राइजिंग स्टार ऑफ द ईयर' (FIH Women's Rising Star of the Year) नामित किया गया था। वह निम्नलिखित में से कौन-सा खेल खेलती हैं?

Ans 1. ऊंची कूद (High Jump)

2. हॉकी (Hockey)

3. फुटबॉल (Football)

4. तलवारबाजी (Fencing)

Question ID : 264330158360

Option 1 ID : 264330620801

Option 2 ID : 264330620800

Option 3 ID : 264330620799

Option 4 ID : 264330620802

Status : Answered

Chosen Option : 1

Q.16 राठवा (Rathwas), जो _____ राज्य के निवासी हैं, होली (रंगों का त्योहार) के अवसर पर राठवा नृत्य करते हैं।

- Ans
- 1. आंध्रप्रदेश
 - 2. गुजरात
 - 3. तेलंगाना
 - 4. महाराष्ट्र

Question ID : 264330160800
Option 1 ID : 264330630532
Option 2 ID : 264330630533
Option 3 ID : 264330630534
Option 4 ID : 264330630531
Status : Answered
Chosen Option : 4

Q.17 भारत के संविधान का कौन-सा अनुच्छेद प्रत्येक राज्य के लिए एक राज्यपाल का प्रावधान करता है?

- Ans
- 1. अनुच्छेद 157
 - 2. अनुच्छेद 156
 - 3. अनुच्छेद 173
 - 4. अनुच्छेद 153

Question ID : 264330161294
Option 1 ID : 264330632505
Option 2 ID : 264330632504
Option 3 ID : 264330632506
Option 4 ID : 264330632503
Status : Answered
Chosen Option : 4

Q.18 निम्नलिखित में से कौन-सा कर्नाटक संगीतकार भारत रत्न प्राप्त करने वाला पहला संगीतकार था?

- Ans
- 1. एम. एस. सुब्बुलक्ष्मी
 - 2. के. जे. येसुदास
 - 3. श्यामा शास्त्री
 - 4. त्यागराज

Question ID : 264330161767
Option 1 ID : 264330634395
Option 2 ID : 264330634396
Option 3 ID : 264330634397
Option 4 ID : 264330634398
Status : Answered
Chosen Option : 1

Q.19 किसी अर्थव्यवस्था में अंतिम वस्तुओं और सेवाओं पर कुल खर्च का योग करके राष्ट्रीय आय की गणना करने के लिए निम्नलिखित में से किस विधि का उपयोग किया जाता है?

- Ans
- 1. व्यय विधि
 - 2. आउटपुट/उत्पाद विधि
 - 3. मूल्य वर्धित विधि
 - 4. आय विधि

Question ID : 264330157316
Option 1 ID : 264330616628
Option 2 ID : 264330616629
Option 3 ID : 264330616630
Option 4 ID : 264330616627
Status : Answered
Chosen Option : 1

Q.20 वर्ष 2004 से 2009 तक झारखंड के पूर्व राज्यपाल रहे _____ का 2022 में लखनऊ में निधन हो गया।

- Ans
- 1. रमेश बैस (Ramesh Bais)
 - 2. सैयद अहमद (Syed Ahmed)
 - 3. कतीकाल शंकरनारायणन (Kateekal Sankaranarayanan)
 - 4. सैयद सिब्त रजी (Syed Sibtey Razi)

Question ID : 264330161405
Option 1 ID : 264330632950
Option 2 ID : 264330632949
Option 3 ID : 264330632947
Option 4 ID : 264330632948
Status : Answered
Chosen Option : 2

Q.21 Which of the following is a common financial service provided by Micro Finance Institutions?

- Ans
- 1. Credit card issuance
 - 2. Investment advisory services for high-net-worth individuals
 - 3. Mortgage loans for luxury homes
 - 4. Small loans to low-income individuals for entrepreneurial activities

Question ID : 264330157286
Option 1 ID : 264330616507
Option 2 ID : 264330616510
Option 3 ID : 264330616508
Option 4 ID : 264330616509
Status : Answered
Chosen Option : 4

Q.22 अजमेर शरीफ निम्नलिखित में से किस सूफी संत की दरगाह है?

- Ans
- 1. मोहम्मद बिन तुगलक
 - 2. मोहम्मद गोरी
 - 3. ख्वाजा मोइनुद्दीन चिश्ती
 - 4. भक्तियार खिलजी

Question ID : 264330160765
Option 1 ID : 264330630391
Option 2 ID : 264330630394
Option 3 ID : 264330630393
Option 4 ID : 264330630392
Status : Answered
Chosen Option : 3

Q.23 स्वर्ण जयंती शहरी रोज़गार योजना (SJSRY) भारत सरकार द्वारा वर्ष _____ में शुरू की गई थी।

- Ans
- 1. 1997
 - 2. 2004
 - 3. 2010
 - 4. 1990

Question ID : 264330161574
Option 1 ID : 264330633624
Option 2 ID : 264330633625
Option 3 ID : 264330633626
Option 4 ID : 264330633623
Status : Answered
Chosen Option : 1

Q.24 'ऐस अगेंस्ट ऑड्स' (Ace against Odds) किसकी आत्मकथा का शीर्षक है?

- Ans
- 1. मीराबाई चानू
 - 2. साइना नेहवाल
 - 3. मैरी कॉम
 - 4. सानिया मिर्जा

Question ID : 264330155450
Option 1 ID : 264330609206
Option 2 ID : 264330609204
Option 3 ID : 264330609203
Option 4 ID : 264330609205
Status : Answered
Chosen Option : 4

Q.25 Who was the first Woman President of Indian National Congress?

- Ans
- 1. Asaf Ali
 - 2. Sarojini Naidu
 - 3. Annie Besant
 - 4. Usha Mehta

Question ID : 264330162342
Option 1 ID : 264330636697
Option 2 ID : 264330636695
Option 3 ID : 264330636698
Option 4 ID : 264330636696
Status : Answered
Chosen Option : 3

Section : English Language and Comprehension

Q.1 Select the option that can be used as a one-word substitute for the underlined segment in the following sentence.
Hundreds of people were removed from a place by the government recently due to a war-like situation.

- Ans
- 1. terminated
 - 2. evacuated
 - 3. invaded
 - 4. assassinated

Question ID : 264330152716
Option 1 ID : 264330598463
Option 2 ID : 264330598464
Option 3 ID : 264330598465
Option 4 ID : 264330598466
Status : Answered
Chosen Option : 2

Q.2 Select the most appropriate synonym of the given word.
Grief

- Ans 1. Jollity
 2. Pain
 3. Pleasure
 4. Content

Question ID : 264330151821
Option 1 ID : 264330594914
Option 2 ID : 264330594912
Option 3 ID : 264330594911
Option 4 ID : 264330594913
Status : Answered
Chosen Option : 2

Q.3 Select the most appropriate ANTONYM of the given word.
Nonchalant

- Ans 1. Marvellous
 2. Caring
 3. Flexible
 4. Covert

Question ID : 264330153539
Option 1 ID : 264330601662
Option 2 ID : 264330601660
Option 3 ID : 264330601661
Option 4 ID : 264330601659
Status : Answered
Chosen Option : 2

Q.4 The following sentence has been split into four segments. Identify the segment that contains an error.
She was writing / a letter to her grandmother / when the power / gone out.

- Ans 1. She was writing
 2. a letter to her grandmother
 3. gone out
 4. when the power

Question ID : 264330155319
Option 1 ID : 264330608715
Option 2 ID : 264330608716
Option 3 ID : 264330608718
Option 4 ID : 264330608717
Status : Answered
Chosen Option : 3

Q.5 Select the option that can be used as a one-word substitute for the given group of words.

The killing of a king

- Ans** 1. Regicide
 2. Sororicide
 3. Fratricide
 4. Patricide

Question ID : 264330151868
Option 1 ID : 264330595091
Option 2 ID : 264330595092
Option 3 ID : 264330595094
Option 4 ID : 264330595093
Status : Answered
Chosen Option : 1

Q.6 Select the most appropriate meaning of the given idiom.
From scratch

- Ans** 1. From utter disorder
 2. From a skin disease
 3. From the beginning
 4. From death

Question ID : 264330156173
Option 1 ID : 264330612092
Option 2 ID : 264330612091
Option 3 ID : 264330612094
Option 4 ID : 264330612093
Status : Answered
Chosen Option : 3

Q.7 Select the most appropriate option to fill in the blank.
Many soldiers marched in _____ at the international border.

- Ans** 1. uniform
 2. fabric
 3. clothes
 4. dress

Question ID : 264330152583
Option 1 ID : 264330597937
Option 2 ID : 264330597938
Option 3 ID : 264330597936
Option 4 ID : 264330597935
Status : Answered
Chosen Option : 1

Q.8 Parts of the following sentence have been given as options. Select the option that contains an error.
They have less books than I have.

- Ans
- 1. than
 - 2. less books
 - 3. I have
 - 4. They have

Question ID : 264330152802
Option 1 ID : 264330598801
Option 2 ID : 264330598800
Option 3 ID : 264330598802
Option 4 ID : 264330598799
Status : Answered
Chosen Option : 2

Q.9 Select the most appropriate synonym of the bracketed word in the following sentence to fill in the blank.
The sun was setting over the mountains, painting the sky with _____(energetic) shades of orange and pink.

- Ans
- 1. vibrant
 - 2. faded
 - 3. bright
 - 4. reactive

Question ID : 264330152661
Option 1 ID : 264330598247
Option 2 ID : 264330598248
Option 3 ID : 264330598249
Option 4 ID : 264330598250
Status : Answered
Chosen Option : 1

Q.10 Select the sentence that has NO spelling errors.

- Ans
- 1. The elderly woman was delighted to receive a bouque of fragrant flowers from her thoughtfull grandson, who had come to visit her at the nursing home
 - 2. The elderly woman was delighted to receive a bouquet of fragrant flowers from her thoughtful grandson, who had come to visit her at the nursing home
 - 3. The elderly woman was delighted to recive a bouquet of fragrant flowers from her thoughtfull grandson, who had come to visit her at the nursing home
 - 4. The elderly woman was deligted to receive a bouque of fregrant flowers from her thoughtful grandson, who had come to visit her at the nursing home

Question ID : 264330152648
Option 1 ID : 264330598198
Option 2 ID : 264330598196
Option 3 ID : 264330598197
Option 4 ID : 264330598195
Status : Answered
Chosen Option : 2

Q.11 Select the option that rectifies the spelling of the underlined word in the given sentence.

He felt priviledged to have received the country's greatest honour.

- Ans 1. previllaged
 2. privileged
 3. privilaged
 4. privilegede

Question ID : 264330153225
Option 1 ID : 264330600460
Option 2 ID : 264330600461
Option 3 ID : 264330600462
Option 4 ID : 264330600459
Status : Answered
Chosen Option : 1

Q.12 Select the most appropriate meaning of the underlined idiom.

The detective went the whole nine yards in his investigation.

- Ans 1. Close affinity with the law
 2. Taking the distant call
 3. Measuring every step
 4. Everything, all the way

Question ID : 264330153147
Option 1 ID : 264330600149
Option 2 ID : 264330600147
Option 3 ID : 264330600148
Option 4 ID : 264330600150
Status : Answered
Chosen Option : 4

Q.13 The following sentence has been split into four segments. Identify the segment that contains a grammatical error.

This scripture / has been /translated in / seventy languages.

- Ans 1. This scripture
 2. has been
 3. translated in
 4. seventy languages

Question ID : 264330155431
Option 1 ID : 264330609131
Option 2 ID : 264330609132
Option 3 ID : 264330609133
Option 4 ID : 264330609134
Status : Answered
Chosen Option : 3

Q.14 Select the most appropriate meaning of the given idiom.
Into hot water

- Ans 1. In favour with
 2. Into trouble
 3. Not on good terms
 4. Came to nothing

Question ID : 264330152574
Option 1 ID : 264330597901
Option 2 ID : 264330597900
Option 3 ID : 264330597899
Option 4 ID : 264330597902
Status : Answered
Chosen Option : 2

Q.15 Select the option that can be used as a one-word substitute for the given group of words.
One who has love for mankind
OR
One who makes an active effort to promote human welfare

- Ans 1. Patriot
 2. Autocrat
 3. Philosopher
 4. Philanthropist

Question ID : 264330153554
Option 1 ID : 264330601717
Option 2 ID : 264330601718
Option 3 ID : 264330601716
Option 4 ID : 264330601715
Status : Answered
Chosen Option : 4

Q.16 The following sentence has been divided into four parts. Identify the part that contains an error.
(A) Four divided by / (B) two is coming / (C) out to / (D) be two.

- Ans 1. B
 2. D
 3. C
 4. A

Question ID : 264330152628
Option 1 ID : 264330598116
Option 2 ID : 264330598118
Option 3 ID : 264330598117
Option 4 ID : 264330598115
Status : Answered
Chosen Option : 2

Q.17 There is a spelling error in the given sentence. Select the option that contains the **INCORRECTLY** spelt word.

The professor's niece was planning a pleasant surprise for him.

- Ans 1. profesor
 2. niece
 3. pleasant
 4. planning

Question ID : 264330152835
Option 1 ID : 264330598931
Option 2 ID : 264330598932
Option 3 ID : 264330598934
Option 4 ID : 264330598933
Status : Answered
Chosen Option : 1

Q.18 Select the most appropriate option to fill in the blanks.

(Ø = No article)

____ doctor suggested doing some eye exercises and wearing ____ pair of powered glasses.

- Ans 1. A; a
 2. The; a
 3. A; Ø
 4. Ø; a

Question ID : 264330151329
Option 1 ID : 264330592945
Option 2 ID : 264330592943
Option 3 ID : 264330592946
Option 4 ID : 264330592944
Status : Answered
Chosen Option : 1

Q.19 Select the most appropriate meaning of the underlined idiom in the following sentence.

Buying a home in the city centre will cost you an arm and a leg.

- Ans 1. A small amount of money
 2. A large amount of money
 3. Nothing extra
 4. Physical pain

Question ID : 264330153048
Option 1 ID : 264330599759
Option 2 ID : 264330599760
Option 3 ID : 264330599762
Option 4 ID : 264330599761
Status : Answered
Chosen Option : 2

Q.20 Select the most appropriate option to fill in the blank.

She was known for her _____ attention to detail, always making sure everything was perfectly organised and in its proper place.

- Ans 1. fastidious
 2. tedious
 3. exact
 4. scornful

Question ID : 264330151863

Option 1 ID : 264330595073

Option 2 ID : 264330595071

Option 3 ID : 264330595074

Option 4 ID : 264330595072

Status : Answered

Chosen Option : 1

Comprehension:

In the following passage, some words have been deleted. Read the passage carefully and select the most appropriate option to fill in each blank.

Tim Cook, CEO of Apple who has recently _____ (1) India, has some _____ (2) for parents: limit the screen time for children. He says: "Kids are born _____ (3), they're digital kids now. And it is, I think, important to set some hard rails around it." Various surveys of Indian children show alarming findings. A Saurashtra University survey of _____ (4) a thousand children and their parents in Rajkot finds that 92% students prefer playing mobile games over playing outside and 78% students _____ (5) to having their phone while having meals. In another survey by Local Circles, nearly 55% of parents admit that their children aged 9-13 have access to a smartphone throughout the day.

SubQuestion No : 21

Q.21 Select the most appropriate option to fill in blank number 1.

- Ans 1. visited
 2. visit
 3. visiting
 4. visits

Question ID : 264330152760

Option 1 ID : 264330598636

Option 2 ID : 264330598635

Option 3 ID : 264330598637

Option 4 ID : 264330598638

Status : Answered

Chosen Option : 1

Comprehension:

In the following passage, some words have been deleted. Read the passage carefully and select the most appropriate option to fill in each blank.

Tim Cook, CEO of Apple who has recently _____ (1) India, has some _____ (2) for parents: limit the screen time for children. He says: "Kids are born _____ (3), they're digital kids now. And it is, I think, important to set some hard rails around it." Various surveys of Indian children show alarming findings. A Saurashtra University survey of _____ (4) a thousand children and their parents in Rajkot finds that 92% students prefer playing mobile games over playing outside and 78% students _____ (5) to having their phone while having meals. In another survey by Local Circles, nearly 55% of parents admit that their children aged 9-13 have access to a smartphone throughout the day.

SubQuestion No : 22

Q.22 Select the most appropriate option to fill in blank number 2.

- Ans 1. advice
 2. suggesting
 3. advise
 4. suggest

Question ID : 264330152761

Option 1 ID : 264330598640

Option 2 ID : 264330598642

Option 3 ID : 264330598639

Option 4 ID : 264330598641

Status : Answered

Chosen Option : 1

Comprehension:

In the following passage, some words have been deleted. Read the passage carefully and select the most appropriate option to fill in each blank.

Tim Cook, CEO of Apple who has recently _____ (1) India, has some _____ (2) for parents: limit the screen time for children. He says: "Kids are born _____ (3), they're digital kids now. And it is, I think, important to set some hard rails around it." Various surveys of Indian children show alarming findings. A Saurashtra University survey of _____ (4) a thousand children and their parents in Rajkot finds that 92% students prefer playing mobile games over playing outside and 78% students _____ (5) to having their phone while having meals. In another survey by Local Circles, nearly 55% of parents admit that their children aged 9-13 have access to a smartphone throughout the day.

SubQuestion No : 23

Q.23 Select the most appropriate option to fill in blank number 3.

- Ans 1. digital
 2. digitalised
 3. digitally
 4. digitalise

Question ID : 264330152762

Option 1 ID : 264330598643

Option 2 ID : 264330598646

Option 3 ID : 264330598644

Option 4 ID : 264330598645

Status : Answered

Chosen Option : 3

Comprehension:

In the following passage, some words have been deleted. Read the passage carefully and select the most appropriate option to fill in each blank.

Tim Cook, CEO of Apple who has recently _____ (1) India, has some _____ (2) for parents: limit the screen time for children. He says: "Kids are born _____ (3), they're digital kids now. And it is, I think, important to set some hard rails around it." Various surveys of Indian children show alarming findings. A Saurashtra University survey of _____ (4) a thousand children and their parents in Rajkot finds that 92% students prefer playing mobile games over playing outside and 78% students _____ (5) to having their phone while having meals. In another survey by Local Circles, nearly 55% of parents admit that their children aged 9-13 have access to a smartphone throughout the day.

SubQuestion No : 24

Q.24 Select the most appropriate option to fill in blank number 4.

- Ans
- 1. closer than
 - 2. bigger than
 - 3. more than
 - 4. above than

Question ID : 264330152763

Option 1 ID : 264330598650

Option 2 ID : 264330598649

Option 3 ID : 264330598648

Option 4 ID : 264330598647

Status : Answered

Chosen Option : 3

Comprehension:

In the following passage, some words have been deleted. Read the passage carefully and select the most appropriate option to fill in each blank.

Tim Cook, CEO of Apple who has recently _____ (1) India, has some _____ (2) for parents: limit the screen time for children. He says: "Kids are born _____ (3), they're digital kids now. And it is, I think, important to set some hard rails around it." Various surveys of Indian children show alarming findings. A Saurashtra University survey of _____ (4) a thousand children and their parents in Rajkot finds that 92% students prefer playing mobile games over playing outside and 78% students _____ (5) to having their phone while having meals. In another survey by Local Circles, nearly 55% of parents admit that their children aged 9-13 have access to a smartphone throughout the day.

SubQuestion No : 25

Q.25 Select the most appropriate option to fill in blank number 5.

- Ans
- 1. habituated
 - 2. will be habituating
 - 3. habituating
 - 4. are habituated

Question ID : 264330152764

Option 1 ID : 264330598653

Option 2 ID : 264330598651

Option 3 ID : 264330598652

Option 4 ID : 264330598654

Status : Answered

Chosen Option : 4

Multi Tasking Non Technical Staff and Havaladar CBIC and CBN Examination 2023

Roll Number	KD Job Updates
Candidate Name	KD Job Updates
Venue Name	iON Digital Zone iDZ3 Patliputra
Exam Date	08/09/2023
Exam Time	4:00 PM - 6:00 PM
Subject	MTS Non Tech Havaladar CBIC and CBN Examination 2023

Section : Numerical and Mathematical Ability

Q.1 $\frac{1}{6}, \frac{5}{27}, \frac{4}{15}, \frac{8}{3}$ का लघुत्तम समापवर्त्य ज्ञात कीजिए।

- Ans
- ✓ 1. $\frac{40}{3}$
 - ✗ 2. $\frac{40}{5}$
 - ✗ 3. $\frac{5}{28}$
 - ✗ 4. $\frac{3}{28}$

Question ID : 264330156205

Option 1 ID : 264330612221

Option 2 ID : 264330612222

Option 3 ID : 264330612219

Option 4 ID : 264330612220

Status : Answered

Chosen Option : 1

Q.2 एक बेलन का कुल पृष्ठीय क्षेत्रफल 64π वर्ग इकाई है, जहाँ बेलन की ऊँचाई इसकी त्रिज्या के बराबर है। यदि ऊँचाई दोगुनी और त्रिज्या आधी कर दी जाए, तो नए बेलन का कुल पृष्ठीय क्षेत्रफल _____ वर्ग इकाई होगा।

- Ans
- ✗ 1. 48π
 - ✗ 2. 54π
 - ✓ 3. 40π
 - ✗ 4. 64π

Question ID : 264330153825

Option 1 ID : 264330602765

Option 2 ID : 264330602763

Option 3 ID : 264330602764

Option 4 ID : 264330602766

Status : Answered

Chosen Option : 3

Q.3 $\frac{3 \div 3 \times 2 - 6 \div 3 + 7}{5 \div 5 \times 6 \div 6 + 3 + 3}$ का मान _____ के बराबर है।

- Ans
- 1. $1\frac{3}{2}$
 - 2. 2
 - 3. $\frac{3}{2}$
 - 4. 1

Question ID : 264330156502
Option 1 ID : 264330613396
Option 2 ID : 264330613398
Option 3 ID : 264330613395
Option 4 ID : 264330613397
Status : Answered
Chosen Option : 4

Q.4 0.8 और 7.2 के बीच माध्यानुपाती _____ है।

- Ans
- 1. 1.2
 - 2. 2.4
 - 3. 4.2
 - 4. 3.4

Question ID : 264330153769
Option 1 ID : 264330602542
Option 2 ID : 264330602541
Option 3 ID : 264330602539
Option 4 ID : 264330602540
Status : Answered
Chosen Option : 2

Q.5 यदि 5 वर्ष के लिए मूलधन और साधारण ब्याज का अनुपात 10 : 7 है, तो वार्षिक ब्याज की दर क्या है?

- Ans
- 1. 18%
 - 2. 16%
 - 3. 14%
 - 4. 12%

Question ID : 264330156523
Option 1 ID : 264330613481
Option 2 ID : 264330613482
Option 3 ID : 264330613480
Option 4 ID : 264330613479
Status : Answered
Chosen Option : 3

Q.6 एक वस्तु का मूल्य ₹200 से बढ़कर ₹250 हो जाता है। मूल्य में प्रतिशत वृद्धि क्या है?

- Ans
- ✓ 1. 25%
 - ✗ 2. 22%
 - ✗ 3. 20%
 - ✗ 4. 27%

Question ID : 264330156260

Option 1 ID : 264330612441

Option 2 ID : 264330612440

Option 3 ID : 264330612439

Option 4 ID : 264330612442

Status : Answered

Chosen Option : 1

Q.7 ₹108 प्रति किलोग्राम और ₹120 प्रति किलोग्राम मूल्य वाली चाय की पत्तियों को तीसरी किस्म के साथ 2 : 3 : 5 के अनुपात में मिलाया जाता है। यदि इस मिश्रण का मूल्य ₹125 प्रति किलोग्राम हो जाता है, तो तीसरी किस्म की चाय पत्ती का प्रति किलोग्राम मूल्य (₹ में, निकटतम पूर्णांक तक सन्निकटित) क्या है?

- Ans
- ✗ 1. 128
 - ✓ 2. 135
 - ✗ 3. 130
 - ✗ 4. 133

Question ID : 264330156469

Option 1 ID : 264330613264

Option 2 ID : 264330613263

Option 3 ID : 264330613265

Option 4 ID : 264330613266

Status : Answered

Chosen Option : 2

Q.8 निम्न दंड आलेख में 12:00 P.M. से 6:00 P.M. तक एक मेट्रो स्टेशन में E-साइकिल पार्किंग की संख्या को दर्शाया गया है।

पार्क की गई E-साइकिलों की संख्या, औसत संख्या से कितनी बार अधिक है?



संदर्भ : Number of E-cycles - E-साइकिलों की संख्या, 12 noon - दोपहर 12 बजे, Number - संख्या

- Ans
- ✗ 1. 5
 - ✗ 2. 3
 - ✗ 3. 4
 - ✓ 4. 2

Question ID : 264330154064

Option 1 ID : 264330603722

Option 2 ID : 264330603720

Option 3 ID : 264330603721

Option 4 ID : 264330603719

Status : Answered

Chosen Option : 4

Q.9 एक वस्तु को ₹955 में बेचने पर अर्जित प्रतिशत लाभ उसी वस्तु को ₹845 में बेचने पर होने वाले प्रतिशत हानि के बराबर है। 6% लाभ अर्जित करने के लिए वस्तु को किस मूल्य पर बेचा जाना चाहिए?

- Ans
- 1. ₹1,014
 - 2. ₹954
 - 3. ₹955
 - 4. ₹925

Question ID : 264330159021
Option 1 ID : 264330623444
Option 2 ID : 264330623446
Option 3 ID : 264330623443
Option 4 ID : 264330623445
Status : Answered
Chosen Option : 2

Q.10 A और B ने 5 वर्ष के लिए एक साझेदारी की। व्यवसाय की शुरुआत में, उन्होंने क्रमशः ₹36,000 और ₹58,000 का निवेश किया। 5 वर्ष के अंत में, उनका कुल लाभ ₹94,000 था। इस लाभ में से B का हिस्सा (₹ में) कितना होगा?

- Ans
- 1. 58,000
 - 2. 60,000
 - 3. 46,000
 - 4. 52,000

Question ID : 264330155742
Option 1 ID : 264330610373
Option 2 ID : 264330610374
Option 3 ID : 264330610371
Option 4 ID : 264330610372
Status : Answered
Chosen Option : 1

Q.11 एक लड़का साइकिल से अपने घर और स्कूल के बीच एक निश्चित दूरी तय करता है। 10 km/h की औसत चाल से चलने पर, वह 10 मिनट देर से स्कूल पहुंचता है। हालांकि, 15 km/h की औसत चाल से चलने पर वह 5 मिनट पहले स्कूल पहुंच जाता है। उसके घर और स्कूल के बीच की दूरी (km में) ज्ञात कीजिए।

- Ans
- 1. 7
 - 2. 8.5
 - 3. 7.5
 - 4. 8

Question ID : 264330156272
Option 1 ID : 264330612487
Option 2 ID : 264330612490
Option 3 ID : 264330612488
Option 4 ID : 264330612489
Status : Answered
Chosen Option : 3

Q.12 रवि ने रीटा को ₹1,920 में एक लैपटॉप बैग बेचा और उसने विनय को ₹1,280 में एक और समान लैपटॉप बैग बेचा। रीटा को लैपटॉप बैग बेचने पर अर्जित प्रतिशत लाभ, विनय को लैपटॉप बैग बेचने पर प्रतिशत हानि के बराबर है। 25% का लाभ अर्जित करने के लिए रवि को लैपटॉप बैग किस मूल्य पर (₹ में) बेचना चाहिए?

- Ans
- ✓ 1. 2,000
 - ✗ 2. 1,600
 - ✗ 3. 1,650
 - ✗ 4. 1,800

Question ID : 264330155706

Option 1 ID : 264330610230

Option 2 ID : 264330610227

Option 3 ID : 264330610228

Option 4 ID : 264330610229

Status : Answered

Chosen Option : 1

Q.13 एक छात्र के अंक 86 के स्थान पर गलती से 44 लिख दिए गए। इससे कक्षा के औसत में $\frac{3}{2}$ की कमी आ गई। कक्षा में छात्रों की संख्या कितनी है?

- Ans
- ✗ 1. 36
 - ✗ 2. 24
 - ✓ 3. 28
 - ✗ 4. 30

Question ID : 264330153757

Option 1 ID : 264330602492

Option 2 ID : 264330602491

Option 3 ID : 264330602494

Option 4 ID : 264330602493

Status : Answered

Chosen Option : 3

Q.14 उस त्रिभुज का क्षेत्रफल ज्ञात कीजिए जिसका आधार 7 cm तथा संगत ऊंचाई 82 cm है।

- Ans
- ✗ 1. 574 cm²
 - ✓ 2. 287 cm²
 - ✗ 3. 191 cm²
 - ✗ 4. 143 cm²

Question ID : 264330153892

Option 1 ID : 264330603031

Option 2 ID : 264330603032

Option 3 ID : 264330603033

Option 4 ID : 264330603034

Status : Answered

Chosen Option : 2

Q.15 7 पुरुष 5 दिनों तक प्रतिदिन 8 घंटे काम करके एक काम पूरा कर सकते हैं। यदि प्रतिदिन 10 घंटे काम करते हुए यह काम 7 दिनों में पूरा करना है तो कितने पुरुषों की आवश्यकता होगी?

- Ans**
- 1. 6
 - 2. 5
 - 3. 4
 - 4. 3

Question ID : **264330156535**
Option 1 ID : **264330613529**
Option 2 ID : **264330613527**
Option 3 ID : **264330613528**
Option 4 ID : **264330613530**
Status : **Answered**
Chosen Option : **3**

Q.16 एक मोटर नाव स्थिर जल में 12 km/h की चाल से चल सकती है। यदि धारा की चाल 2 km/h है, तो नाव धारा के प्रतिकूल एक दूरी तय करने में धारा के अनुकूल समान दूरी तय करने से 1.5 घंटे अधिक का समय लेती है। एक तरफ की दूरी कितनी है?

- Ans**
- 1. 51.5 km
 - 2. 53 km
 - 3. 50 km
 - 4. 52.5 km

Question ID : **264330156286**
Option 1 ID : **264330612544**
Option 2 ID : **264330612546**
Option 3 ID : **264330612543**
Option 4 ID : **264330612545**
Status : **Answered**
Chosen Option : **4**

Q.17 ₹30,000 पर 10% वार्षिक दर से $1\frac{1}{2}$ वर्ष का चक्रवृद्धि ब्याज कितना होगा, जब ब्याज अर्धवार्षिक रूप से संयोजित किया जाता है?

- Ans**
- 1. ₹5,728.75
 - 2. ₹4,800.75
 - 3. ₹4,728.75
 - 4. ₹4,928.75

Question ID : **264330154132**
Option 1 ID : **264330603992**
Option 2 ID : **264330603991**
Option 3 ID : **264330603993**
Option 4 ID : **264330603994**
Status : **Answered**
Chosen Option : **3**

Q.18 रीमा 59 km/h की चाल से कार चलाकर एक निश्चित दूरी तय करती है और वह 43 km/h की चाल से बाइक पर सवार होकर प्रारंभिक बिंदु पर वापस आती है। पूरी यात्रा के दौरान रीमा की औसत चाल (km/h में) ज्ञात कीजिए। (दशमलव के 2 स्थानों तक सन्निकटित)

- Ans**
- 1. 52.25
 - 2. 42.00
 - 3. 45.37
 - 4. 49.75

Question ID : 264330155730

Option 1 ID : 264330610323

Option 2 ID : 264330610326

Option 3 ID : 264330610325

Option 4 ID : 264330610324

Status : Answered

Chosen Option : 4

Q.19 A किसी काम को 10 दिनों में कर सकता है और B उसी काम को 15 दिनों में कर सकता है। वे साथ मिलकर 2 दिनों तक काम करते हैं और फिर A काम छोड़ देता है। शेष काम को पूरा करने में B को कितना समय लगेगा?

- Ans**
- 1. 12 दिन
 - 2. 10 दिन
 - 3. 5 दिन
 - 4. 22 दिन

Question ID : 264330153885

Option 1 ID : 264330603006

Option 2 ID : 264330603004

Option 3 ID : 264330603005

Option 4 ID : 264330603003

Status : Answered

Chosen Option : 2

Q.20 नीचे दी गई तालिका में अलग-अलग वर्षों में अलग-अलग विद्यालयों की आय (₹ करोड़ में) दर्शाया गया है। तालिका का ध्यानपूर्वक अध्ययन कीजिए और नीचे दिए गए प्रश्न का उत्तर दीजिए।

विद्यालय/ वर्ष	2018	2019	2020	2021	2022
P	50	45	49	56	57
Q	46	48	50	55	62
R	70	65	63	68	63
S	38	47	56	60	69
T	48	37	52	69	77

वर्ष 2020 में विद्यालय P और R की मिलाकर कुल आय और वर्ष 2022 में विद्यालय Q, S और T की मिलाकर कुल आय का अनुपात ज्ञात कीजिए?

- Ans**
- 1. 12 : 7
 - 2. 7 : 13
 - 3. 12 : 13
 - 4. 7 : 19

Question ID : 264330156573

Option 1 ID : 264330613679

Option 2 ID : 264330613681

Option 3 ID : 264330613680

Option 4 ID : 264330613682

Status : Answered

Chosen Option : 2

Q.1 यदि निम्नलिखित आकृति श्रृंखला को जारी रखना हो तो कौन-सी आकृति प्रश्न चिन्ह (?) के स्थान पर आनी चाहिए?

R	I	K	2	R	D	7	↑	K	T	7	△	
2	△	D	△	I	T	T	2	△	2	↑	I	?
↑	7	T	K	↑	7	D	R	I	K	D	R	

Ans

✓ 1.

R	D	K
I	T	2
△	7	↑

✗ 2.

R	D	K
I	△	2
↑	7	T

✗ 3.

R	I	K
D	T	7
△	2	↑

✗ 4.

R	I	K
D	△	7
↑	2	T

Question ID : 264330154737
 Option 1 ID : 264330606414
 Option 2 ID : 264330606412
 Option 3 ID : 264330606411
 Option 4 ID : 264330606413
 Status : Answered
 Chosen Option : 1

Q.2 दी गई श्रृंखला में प्रश्न चिह्न “?” के स्थान पर क्या आना चाहिए?

21 24 29 36 47 ?

- Ans
- ✗ 1. 64
 - ✗ 2. 66
 - ✗ 3. 56
 - ✓ 4. 60

Question ID : 264330151715
 Option 1 ID : 264330594487
 Option 2 ID : 264330594489
 Option 3 ID : 264330594488
 Option 4 ID : 264330594490
 Status : Answered
 Chosen Option : 4

Q.3 उस शब्द-युग्म का चयन कीजिए जो नीचे दिए गए शब्दों के युग्म में व्यक्त किए गए समान संबंध का सबसे अच्छा निरूपण करता है।

(शब्दों को अर्थपूर्ण हिंदी शब्दों के रूप में माना जाना चाहिए और उन्हें शब्द में अक्षरों की संख्या/व्यंजन/स्वरों की संख्या के आधार पर एक दूसरे से संबंधित नहीं किया जाना चाहिए।)

कैंची : कपड़ा

- Ans**
- ✓ 1. उस्तरा : दाढ़ी
 - ✗ 2. भट्टी : धुआं
 - ✗ 3. कील : हथौड़ा
 - ✗ 4. कलम : स्याही

Question ID : 264330154631

Option 1 ID : 264330605990

Option 2 ID : 264330605988

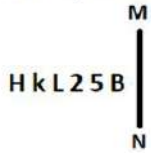
Option 3 ID : 264330605989

Option 4 ID : 264330605987

Status : Answered

Chosen Option : 1

Q.4 दी गई आकृति के उस सही दर्पण प्रतिबिंब को चुनिए, जो नीचे दर्शाए गए अनुसार दर्पण को MN पर रखने पर बनेगा।



- Ans**
- ✗ 1. H K L 2 5 B
 - ✗ 2. H K L 2 5 B
 - ✗ 3. H K L 2 5 B
 - ✓ 4. H K L 2 5 B

Question ID : 264330151501

Option 1 ID : 264330593634

Option 2 ID : 264330593633

Option 3 ID : 264330593632

Option 4 ID : 264330593631

Status : Answered

Chosen Option : 4

Q.5 उस समुच्चय को चुनिए जिसमें संख्याएँ ठीक उसी प्रकार संबंधित हैं जिस प्रकार निम्नलिखित समुच्चयों की संख्याएँ संबंधित हैं।

(ध्यान दें: संख्याओं को उनके घटक अंकों में अलग-अलग किए बिना, पूर्ण संख्याओं पर संक्रियाएँ की जानी चाहिए। उदा. 13 - संख्या 13 पर संक्रियाएँ जैसे 13 को जोड़ना/घटाना/गुणा करना आदि किया जा सकता है। 13 को 1 और 3 में अलग-अलग करने की और फिर 1 और 3 पर गणितीय संक्रियाएँ करने की अनुमति नहीं है।)

(5, 11, 80)

(6, 12, 90)

Ans ✓ 1. 7, 17, 120

✗ 2. 2, 16, 123

✗ 3. 4, 19, 148

✗ 4. 9, 11, 67

Question ID : 264330151615

Option 1 ID : 264330594087

Option 2 ID : 264330594088

Option 3 ID : 264330594089

Option 4 ID : 264330594090

Status : Answered

Chosen Option : 1

Q.6 उस सही विकल्प को चुनिए, जिसे दी गई श्रृंखला के रिक्त स्थानों में इसी क्रम में रखने पर श्रृंखला तार्किक रूप से पूरी हो जाएगी।

WA_XV_FX_EFXTGF_SI_X

Ans ✗ 1. FVYNS

✗ 2. MNVKD

✗ 3. HKVHU

✓ 4. FCUXF

Question ID : 264330154722

Option 1 ID : 264330606354

Option 2 ID : 264330606353

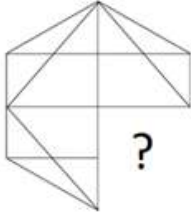
Option 3 ID : 264330606352

Option 4 ID : 264330606351

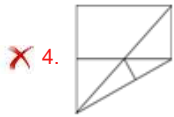
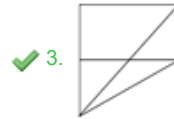
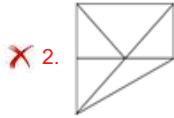
Status : Answered

Chosen Option : 4

Q.7 पैटर्न को पूरा करने वाली आकृति को पहचानिए (घूर्णन की अनुमति नहीं है)।



Ans



Question ID : 264330154513

Option 1 ID : 264330605516

Option 2 ID : 264330605515

Option 3 ID : 264330605517

Option 4 ID : 264330605518

Status : Answered

Chosen Option : 3

Q.8 नीचे दिए गए कथनों और निष्कर्षों को ध्यानपूर्वक पढ़िए। आपको मानना है कि दिए गए कथन सत्य हैं चाहे वे समान्यतः ज्ञात तथ्यों से अलग प्रतीत होते हों। आपको निश्चय करना है कि कौन-सा/कौन-से निष्कर्ष तार्किक रूप से दिए गए कथनों के अनुसार है/हैं।

कथन: सभी स्टेम्प, चाबियां हैं। सभी चाबियां, काली हैं। सभी काली, ग्रे हैं।

निष्कर्ष I: सभी चाबियां, स्टेम्प हैं।

निष्कर्ष II: कुछ चाबियां, काली हैं।

Ans

✗ 1. दोनों निष्कर्ष (I) और (II) कथनों के अनुसार हैं।

✗ 2. न तो निष्कर्ष (I) और न ही (II) कथनों के अनुसार है।

✗ 3. केवल निष्कर्ष (I) कथनों के अनुसार है।

✓ 4. केवल निष्कर्ष (II) कथनों के अनुसार है।

Question ID : 264330155893

Option 1 ID : 264330610978

Option 2 ID : 264330610977

Option 3 ID : 264330610975

Option 4 ID : 264330610976

Status : Answered

Chosen Option : 4

Q.9 अंग्रेजी वर्णमाला क्रम के आधार पर दी गई श्रृंखला में प्रश्न चिह्न (?) के स्थान पर क्या आना चाहिए?

HPS, JRU, LTW, NVY, ?

- Ans
- 1. NZA
 - 2. PXA
 - 3. MXB
 - 4. NYB

Question ID : 264330155765

Option 1 ID : 264330610465

Option 2 ID : 264330610463

Option 3 ID : 264330610466

Option 4 ID : 264330610464

Status : Answered

Chosen Option : 2

Q.10 दी गई श्रृंखला में प्रश्न चिह्न '?' के स्थान पर क्या आना चाहिए?

9 26 77 230 689 ?

- Ans
- 1. 2035
 - 2. 2094
 - 3. 2066
 - 4. 2112

Question ID : 264330151478

Option 1 ID : 264330593539

Option 2 ID : 264330593541

Option 3 ID : 264330593540

Option 4 ID : 264330593542

Status : Answered

Chosen Option : 3

Q.11 यदि '+' और '-' को आपस में बदल दिया जाए तथा '*' और '/' को आपस में बदल दिया जाए तो निम्नलिखित समीकरण में (?) के स्थान पर क्या आएगा?

$17 + 9 - 39 + 225 \times 15 = ?$

- Ans
- 1. 177
 - 2. 167
 - 3. 157
 - 4. 187

Question ID : 264330155669

Option 1 ID : 264330610081

Option 2 ID : 264330610082

Option 3 ID : 264330610079

Option 4 ID : 264330610080

Status : Answered

Chosen Option : 1

Q.12 नीचे दिए गए कथनों और निष्कर्षों को ध्यानपूर्वक पढ़िए। आपको मानना है कि दिए गए कथन सत्य हैं चाहे वे समान्यतः ज्ञात तथ्यों से अलग प्रतीत होते हों। आपको निश्चय करना है कि कौन-सा/कौन-से निष्कर्ष तार्किक रूप से दिए गए कथनों के अनुसार है/हैं।

कथन: सभी धागे, मुलायम हैं। कुछ मुलायम, फल हैं। सभी फल, पीले हैं।

निष्कर्ष I: कुछ धागे, फल हैं।

निष्कर्ष II: कुछ फल, पीले हैं।

Ans

1. केवल निष्कर्ष (I) कथनों के अनुसार है।
2. दोनों निष्कर्ष (I) और (II) कथनों के अनुसार हैं।
3. केवल निष्कर्ष (II) कथनों के अनुसार है।
4. न तो निष्कर्ष (I) और न ही (II) कथनों के अनुसार है।

Question ID : 264330155921

Option 1 ID : 264330611087

Option 2 ID : 264330611090

Option 3 ID : 264330611088

Option 4 ID : 264330611089

Status : Answered

Chosen Option : 3

Q.13 अक्षरों के उस संयोजन को चुनिए जिसे दी गई श्रृंखला के रिक्त स्थानों में क्रमिक रूप से रखने पर श्रृंखला तार्किक रूप से पूरी हो जाएगी।

HLO _ J_OC LL_E _LOG P_OI

Ans

1. BGHPN
2. BLOEN
3. ALONL
4. AONEL

Question ID : 264330156321

Option 1 ID : 264330612685

Option 2 ID : 264330612686

Option 3 ID : 264330612683

Option 4 ID : 264330612684

Status : Answered

Chosen Option : 3

Q.14 सात व्यक्ति, B, N, M, O, P, Y और S एक सीधी पंक्ति में दक्षिण की ओर मुख करके बैठे हैं। P और S के बीच केवल दो व्यक्ति बैठे हैं। S और M का निकटतम पड़ोसी N है। P के दाईं ओर केवल एक व्यक्ति बैठा है। N, O के बाईं ओर से दूसरे स्थान पर बैठा है। Y, P का निकटतम पड़ोसी है।

P और M के बीच कुल कितने व्यक्ति बैठे हैं?

Ans

1. एक
2. तीन
3. दो
4. चार

Question ID : 264330161697

Option 1 ID : 264330634115

Option 2 ID : 264330634117

Option 3 ID : 264330634116

Option 4 ID : 264330634118

Status : Answered

Chosen Option : 4

Q.15 एक निश्चित कूट भाषा में, 'PORTAL' को 'RQTVCN' लिखा जाता है और 'QUIET' को 'SWKGV' लिखा जाता है। उस कूट भाषा में 'SIMPLE' को कैसे लिखा जाएगा?

- Ans
- 1. VKNRMJ
 - 2. TJNSMH
 - 3. UKORNG
 - 4. TNOSMI

Question ID : 264330155813
Option 1 ID : 264330610658
Option 2 ID : 264330610656
Option 3 ID : 264330610655
Option 4 ID : 264330610657
Status : Answered
Chosen Option : 3

Q.16 एक निश्चित कूट भाषा में, 'do it now' को 'qh tr ce' लिखा जाता है और 'now or never' को 'lx uk tr' लिखा जाता है। उसी कूट भाषा में 'now' को कैसे लिखा जाएगा?

- Ans
- 1. tr
 - 2. lx
 - 3. qh
 - 4. ce

Question ID : 264330151686
Option 1 ID : 264330594372
Option 2 ID : 264330594373
Option 3 ID : 264330594374
Option 4 ID : 264330594371
Status : Answered
Chosen Option : 1

Q.17 दी गई श्रृंखला में प्रश्न चिन्ह '?' के स्थान पर क्या आना चाहिए?

1 14 79 404 2029 ?

- Ans
- 1. 10132
 - 2. 9812
 - 3. 9848
 - 4. 10154

Question ID : 264330151468
Option 1 ID : 264330593501
Option 2 ID : 264330593499
Option 3 ID : 264330593500
Option 4 ID : 264330593502
Status : Answered
Chosen Option : 4

Q.18 यदि शब्द 'ABSOLUTE' के प्रत्येक अक्षर को अंग्रेज़ी वर्णमाला के क्रम में व्यवस्थित किया जाए तो कितने अक्षरों का स्थान अपरिवर्तित रहेगा?

- Ans
- 1. दो
 - 2. तीन
 - 3. पांच
 - 4. चार

Question ID : 264330154323
Option 1 ID : 264330604755
Option 2 ID : 264330604757
Option 3 ID : 264330604758
Option 4 ID : 264330604756
Status : Answered
Chosen Option : 2

Q.19 एक निश्चित तर्क के अनुसार 17, 52 से संबंधित है। समान तर्क के अनुसार, 42, 127 से संबंधित है। समान तर्क का अनुसरण करते हुए 29 निम्नलिखित में से किससे संबंधित है?

- Ans
- 1. 86
 - 2. 84
 - 3. 82
 - 4. 88

Question ID : 264330151591
Option 1 ID : 264330593993
Option 2 ID : 264330593992
Option 3 ID : 264330593991
Option 4 ID : 264330593994
Status : Answered
Chosen Option : 4

Q.20 यदि '+' और 'x' को आपस में बदल दिया जाए और '-' और '=' को आपस में बदल दिया जाए तो निम्नलिखित समीकरण में '?' के स्थान पर क्या आएगा?
 $16 - 4 + 13 \times 5 + 2 = ?$

- Ans
- 1. 36
 - 2. 24
 - 3. 48
 - 4. 55

Question ID : 264330154667
Option 1 ID : 264330606134
Option 2 ID : 264330606133
Option 3 ID : 264330606132
Option 4 ID : 264330606131
Status : Answered
Chosen Option : 4

Section : General Awareness

Q.1 वाणिज्य और उद्योग मंत्रालय (2018-19) के अनुसार, भारत का कौन-सा राज्य रबर का सबसे बड़ा उत्पादक है?

- Ans
- 1. महाराष्ट्र
 - 2. उत्तरप्रदेश
 - 3. केरल
 - 4. गुजरात

Question ID : 264330161487
Option 1 ID : 264330633276
Option 2 ID : 264330633277
Option 3 ID : 264330633275
Option 4 ID : 264330633278
Status : Answered
Chosen Option : 3

Q.2 निम्नलिखित में से कौन-सी आत्मकथा भारत के पूर्व राष्ट्रपति डॉ. ए. पी. जे. अब्दुल कलाम द्वारा लिखी गई थी?

- Ans
- 1. वन लाइफ इज़ नॉट इनफ (One Life is Not Enough)
 - 2. आत्मकथा (Atmakatha)
 - 3. वेटिंग फॉर ए वीज़ा (Waiting for a Visa)
 - 4. विंग्स ऑफ फायर (Wings of Fire)

Question ID : 264330161755
Option 1 ID : 264330634350
Option 2 ID : 264330634348
Option 3 ID : 264330634349
Option 4 ID : 264330634347
Status : Answered
Chosen Option : 4

Q.3 भारत का कौन-सा राज्य प्रसिद्ध तूफान 'काल बैसाखी' से सम्बंधित है?

- Ans
- 1. हरियाणा
 - 2. पश्चिम बंगाल
 - 3. कर्नाटक
 - 4. गुजरात

Question ID : 264330161519
Option 1 ID : 264330633404
Option 2 ID : 264330633403
Option 3 ID : 264330633405
Option 4 ID : 264330633406
Status : Answered
Chosen Option : 2

Q.4 निम्नलिखित में से कौन-सा महासागर भूमध्य सागर तक फैला हुआ है?

- Ans
- 1. हिंद महासागर
 - 2. प्रशांत महासागर
 - 3. अटलांटिक महासागर
 - 4. आर्कटिक महासागर

Question ID : 264330157834
Option 1 ID : 264330618695
Option 2 ID : 264330618698
Option 3 ID : 264330618696
Option 4 ID : 264330618697
Status : Answered
Chosen Option : 3

Q.5 वर्नाक्यूलर प्रेस अधिनियम किस वर्ष पारित किया गया था?

- Ans
- 1. 1878 ई.
 - 2. 1757 ई.
 - 3. 1888 ई.
 - 4. 1600 ई.

Question ID : 264330162318
Option 1 ID : 264330636602
Option 2 ID : 264330636600
Option 3 ID : 264330636601
Option 4 ID : 264330636599
Status : Answered
Chosen Option : 1

Q.6 किस भारतीय संगीतकार को प्रतिष्ठित अकादमी पुरस्कार मिला?

- Ans
- 1. अनु मलिक
 - 2. ए. आर. रहमान
 - 3. नौशाद
 - 4. बप्पी लहरी

Question ID : 264330162233
Option 1 ID : 264330636260
Option 2 ID : 264330636262
Option 3 ID : 264330636261
Option 4 ID : 264330636259
Status : Answered
Chosen Option : 2

Q.7 मानव विकास सूचकांक 2021 के अनुसार पड़ोसी देशों के किस समूह का स्थान भारत से पीछे है?

- Ans
- 1. बांग्लादेश और चीन
 - 2. श्रीलंका और भूटान
 - 3. मालदीव और भूटान
 - 4. पाकिस्तान और अफगानिस्तान

Question ID : 264330160173

Option 1 ID : 264330628031

Option 2 ID : 264330628034

Option 3 ID : 264330628033

Option 4 ID : 264330628032

Status : Answered

Chosen Option : 2

Q.8 'कथक' शब्द की उत्पत्ति निम्नलिखित में से किस शब्द से हुई है?

- Ans
- 1. कथा (Story)
 - 2. नृत्य मुद्रा (Dance steps)
 - 3. घंटी (Bells)
 - 4. कथावाचक (Narrator)

Question ID : 264330160787

Option 1 ID : 264330630479

Option 2 ID : 264330630481

Option 3 ID : 264330630482

Option 4 ID : 264330630480

Status : Answered

Chosen Option : 1

Q.9 तमिलनाडु राज्य के संबंध में, संविधान (अनुसूचित जनजाति) आदेश (दूसरा संशोधन) अधिनियम, 2022 तमिलनाडु में अनुसूचित जनजातियों की सूची में _____ और कुरीविकरन (Kurivikkaran) समुदायों को शामिल करेगा।

- Ans
- 1. कादर (Kadar)
 - 2. नारिकोरावन (Narikoravan)
 - 3. इरुलर (Irular)
 - 4. कम्मारा (Kammara)

Question ID : 264330161414

Option 1 ID : 264330632985

Option 2 ID : 264330632983

Option 3 ID : 264330632984

Option 4 ID : 264330632986

Status : Not Answered

Chosen Option : --

Q.10 _____ नृत्य के प्रदर्शन में, एक तरफ महिलाओं द्वारा रास नृत्य किया जाता है, जबकि विपरीत तरफ वादक पुंग चोलोम (ड्रम) और करताल (झांझ) बजाते हैं।

- Ans 1. मणिपुरी
 2. कथकली
 3. ओडिसी
 4. यक्षगान

Question ID : 264330161342
Option 1 ID : 264330632698
Option 2 ID : 264330632696
Option 3 ID : 264330632695
Option 4 ID : 264330632697
Status : Answered
Chosen Option : 1

Q.11 राज्य विधानसभा (State Legislature) के दो सत्रों के बीच अधिकतम समय अंतराल कितना होता है?

- Ans 1. छः महीने
 2. दो महीने
 3. तीन महीने
 4. एक वर्ष

Question ID : 264330159927
Option 1 ID : 264330627057
Option 2 ID : 264330627055
Option 3 ID : 264330627056
Option 4 ID : 264330627058
Status : Answered
Chosen Option : 1

Q.12 1951 में प्रथम एशियाई खेल किस शहर में आयोजित किए गए थे?

- Ans 1. पुणे
 2. नई दिल्ली
 3. मुंबई
 4. जयपुर

Question ID : 264330158228
Option 1 ID : 264330620272
Option 2 ID : 264330620271
Option 3 ID : 264330620273
Option 4 ID : 264330620274
Status : Answered
Chosen Option : 1

Q.13 निम्नलिखित में से कौन-सा किसी देश का मौलिक कानून है जो सरकार के विभिन्न अंगों की रूपरेखा और प्रमुख कार्यों को निर्धारित करता है?

- Ans 1. अध्यादेश (Ordinance)
 2. प्रथाएं (Customs)
 3. अंतरराष्ट्रीय कानून (International Law)
 4. संविधान (Constitution)

Question ID : 264330161395
Option 1 ID : 264330632909
Option 2 ID : 264330632908
Option 3 ID : 264330632910
Option 4 ID : 264330632907
Status : Answered
Chosen Option : 4

Q.14 रानी मचैया (Rani Machaiah) को लोक नृत्य में उनके योगदान के लिए वर्ष _____ में 'पद्म श्री' से सम्मानित किया गया था।

- Ans
- 1. 2018
 - 2. 2012
 - 3. 2015
 - 4. 2023

Question ID : 264330155526
Option 1 ID : 264330609508
Option 2 ID : 264330609510
Option 3 ID : 264330609509
Option 4 ID : 264330609507
Status : Not Answered
Chosen Option : --

Q.15 बैंकिंग में 'ऋणाधार (Collateral)' शब्द का अर्थ क्या है?

- Ans
- 1. डिजिटल भुगतान का एक रूप
 - 2. एक निवेश पोर्टफोलियो
 - 3. ऋण के लिए सुरक्षा के रूप में गिरवी रखी गई संपत्ति
 - 4. एक प्रकार का क्रेडिट कार्ड

Question ID : 264330157306
Option 1 ID : 264330616588
Option 2 ID : 264330616589
Option 3 ID : 264330616590
Option 4 ID : 264330616587
Status : Answered
Chosen Option : 3

Q.16 सरकारी बजट क्या है?

- Ans
- 1. वैयक्तिक वित्त प्रबंधन के लिए एक योजना।
 - 2. किसी देश की आर्थिक वृद्धि पर एक रिपोर्ट।
 - 3. किसी विशिष्ट अवधि के लिए सरकार के अपेक्षित राजस्व और व्यय का वित्तीय विवरण।
 - 4. विदेश नीति के लक्ष्यों को रेखांकित करने वाला एक दस्तावेज।

Question ID : 264330157270
Option 1 ID : 264330616443
Option 2 ID : 264330616445
Option 3 ID : 264330616444
Option 4 ID : 264330616446
Status : Answered
Chosen Option : 3

Q.17 1820 में एक प्रयोग के दौरान किस भौतिक विज्ञानी के प्रयोग ने विद्युत (electricity) और चुंबकत्व (magnetism) के बीच संबंध को दर्शाया?

- Ans
- 1. हेनरिक हर्ट्ज़ (Heinrich Hertz)
 - 2. हैस क्रिश्चियन ऑर्स्टेड (Hans Christian Oersted)
 - 3. विलियम गिल्बर्ट (William Gilbert)
 - 4. जॉन कॉकक्रॉफ्ट (William Gilbert)

Question ID : 264330161045
Option 1 ID : 264330631514
Option 2 ID : 264330631513
Option 3 ID : 264330631511
Option 4 ID : 264330631512
Status : Not Answered
Chosen Option : --

Q.18 सिंधु घाटी सभ्यता के विशाल स्नानघर के बारे में निम्नलिखित में से कौन-सा कथन सत्य है?

- Ans
- 1. इसका उपयोग अनाज भंडारण के लिए किया जाता था।
 - 2. इसका उपयोग संभवतः धार्मिक प्रयोजन के लिए किया जाता था।
 - 3. इसका उपयोग शहर की पानी की टंकी के रूप में किया जाता था।
 - 4. इसका उपयोग खेती के लिए किया जाता था।

Question ID : 264330160763

Option 1 ID : 264330630385

Option 2 ID : 264330630383

Option 3 ID : 264330630386

Option 4 ID : 264330630384

Status : Answered

Chosen Option : 2

Q.19 किस एंटीबायोटिक को पहली चमत्कारिक दवा माना जाता है, जिसका उपयोग गले के संक्रमण, मस्तिष्क ज्वर (meningitis), सिफलिस (syphilis) और अन्य जीवाणु संक्रमण के इलाज के लिए किया जाता है?

- Ans
- 1. निफुराटेल (Nifuratel)
 - 2. पेनिसिलिन (Penicillin)
 - 3. असिक्लोविर (Aciclovir)
 - 4. मेट्रोनिडाज़ोल (Metronidazole)

Question ID : 264330161078

Option 1 ID : 264330631646

Option 2 ID : 264330631643

Option 3 ID : 264330631644

Option 4 ID : 264330631645

Status : Answered

Chosen Option : 2

Q.20 निम्नलिखित में से कौन उत्तर-पश्चिम सीमांत प्रांत के पठानों के बीच एक शक्तिशाली अहिंसक आंदोलन, खुदाई खिदमतगार का संस्थापक था?

- Ans
- 1. मोहम्मद अली जिन्ना
 - 2. खान अब्दुल जब्बार खान
 - 3. खान अब्दुल गफ्फार खान
 - 4. अब्दुल कय्यूम खान कश्मीरी

Question ID : 264330161749

Option 1 ID : 264330634325

Option 2 ID : 264330634324

Option 3 ID : 264330634323

Option 4 ID : 264330634326

Status : Answered

Chosen Option : 3

Q.21 'ए सूटेबल बॉय (A Suitable Boy)' उपन्यास के लेखक कौन हैं?

- Ans 1. विक्रम सेठ
 2. अनिता देसाई
 3. किरण देसाई
 4. चेतन भगत

Question ID : 264330160967

Option 1 ID : 264330631200

Option 2 ID : 264330631202

Option 3 ID : 264330631201

Option 4 ID : 264330631199

Status : Answered

Chosen Option : 1

Q.22 पहले खेले इंडिया शीतकालीन खेलों (Khelo India Winter Games) का आयोजन किस वर्ष किया गया था?

- Ans 1. 2019
 2. 2020
 3. 2021
 4. 2022

Question ID : 264330158238

Option 1 ID : 264330620311

Option 2 ID : 264330620312

Option 3 ID : 264330620313

Option 4 ID : 264330620314

Status : Not Answered

Chosen Option : --

Q.23 फिल्म 'उपकार' (1967) के प्रसिद्ध गीत 'मेरे देश की धरती सोना उगले' के गायक कौन थे?

- Ans 1. महेंद्र कपूर
 2. के.जे. येसुदास
 3. मन्ना डे
 4. सुरेश वाडकर

Question ID : 264330155513

Option 1 ID : 264330609455

Option 2 ID : 264330609457

Option 3 ID : 264330609456

Option 4 ID : 264330609458

Status : Not Answered

Chosen Option : --

Q.24 _____ में आदिवासी समुदाय द्वारा मनाया जाने वाला 'लोसूंग (Losoong)' त्योहार आमतौर पर वह समय होता है जब किसान अपनी फसल कटाई का जश्न व खुशियां मनाते हैं।

- Ans
- 1. ओडिशा
 - 2. झारखंड
 - 3. पश्चिम बंगाल
 - 4. सिक्किम

Question ID : 264330160818
Option 1 ID : 264330630605
Option 2 ID : 264330630606
Option 3 ID : 264330630604
Option 4 ID : 264330630603
Status : Answered
Chosen Option : 4

Q.25 ज्योति याराजी (Jyothi Yarraji) ने 2023 में निम्नलिखित में से किस खेल में एक नया राष्ट्रीय रिकॉर्ड बनाया?

- Ans
- 1. ऊंची कूद (High jump)
 - 2. लंबी छलांग (Long jump)
 - 3. इनडोर बाधा दौड़ (Indoor hurdling)
 - 4. गोला फेंक (Shot put)

Question ID : 264330158373
Option 1 ID : 264330620853
Option 2 ID : 264330620851
Option 3 ID : 264330620854
Option 4 ID : 264330620852
Status : Answered
Chosen Option : 1

Section : English Language and Comprehension

Q.1 Parts of the following sentence have been given as options. Select the option that contains an error.
I shall be playing for four hours.

- Ans
- 1. for
 - 2. four hours
 - 3. I
 - 4. shall be playing

Question ID : 264330152818
Option 1 ID : 264330598865
Option 2 ID : 264330598866
Option 3 ID : 264330598863
Option 4 ID : 264330598864
Status : Answered
Chosen Option : 4

Q.2 Select the most appropriate option to fill in the blank.
The mother _____ the chips because they were soggy.

- Ans
- 1. wasted
 - 2. saved
 - 3. recovered
 - 4. discarded

Question ID : 264330152579
Option 1 ID : 264330597920
Option 2 ID : 264330597922
Option 3 ID : 264330597919
Option 4 ID : 264330597921
Status : Answered
Chosen Option : 4

Q.3 The following sentence has been divided into parts. One of them may contain an error.
Select the part that contains the error from the given options. If you don't find any error, mark 'No error' as your answer.

The viable of life / depends on a pair / of conflicting realities.

- Ans
- 1. The viable of life
 - 2. depends on a pair
 - 3. of conflicting realities
 - 4. No error

Question ID : 264330153607
Option 1 ID : 264330601913
Option 2 ID : 264330601911
Option 3 ID : 264330601912
Option 4 ID : 264330601914
Status : Answered
Chosen Option : 3

Q.4 Select the most appropriate meaning of the given idiom.
Bite the dust

- Ans
- 1. To suffer a defeat
 - 2. To fall asleep
 - 3. To remain calm
 - 4. To fall from a height

Question ID : 264330155285
Option 1 ID : 264330608584
Option 2 ID : 264330608585
Option 3 ID : 264330608586
Option 4 ID : 264330608583
Status : Answered
Chosen Option : 1

Q.5 Select the most appropriate meaning of the given idiom.
Have egg on your face

- Ans 1. Reveal a secret
2. To be made to look foolish or embarrassed
3. Defeat someone thoroughly
4. Making a choice between two unpleasant choices

Question ID : 264330155282
Option 1 ID : 264330608572
Option 2 ID : 264330608573
Option 3 ID : 264330608571
Option 4 ID : 264330608574
Status : Answered
Chosen Option : 2

Q.6 Select the most appropriate option to fill in the blank.
Chaitnya was _____ from the school due to his misappropriate behaviour.

- Ans 1. xpeled
2. xpelled
3. expelled
4. expeled

Question ID : 264330153305
Option 1 ID : 264330600776
Option 2 ID : 264330600778
Option 3 ID : 264330600777
Option 4 ID : 264330600775
Status : Answered
Chosen Option : 3

Q.7 The following sentence contains some errors. Select the option that correctly rectifies the error.
The tiger was tranquilized in the morning and kept in a cage to avoid disturbannces by human beings.

- Ans 1. The tiger was traanquilized in the morning and kept in a cage to avoid disturbances by human beings.
2. The tiger was tranquiliized in the morning and kept in a cage to avoid disturbances by human beings.
3. The tiger was tranquilized in the morning and kept in a cage to avoid disturbances by human beings.
4. The tiger was tranquilized in the morning and kept in a cage to avoiid disturbaences by human beings.

Question ID : 264330152692
Option 1 ID : 264330598372
Option 2 ID : 264330598371
Option 3 ID : 264330598374
Option 4 ID : 264330598373
Status : Answered
Chosen Option : 3

Q.8 Select the option that can be used as a one-word substitute for the given group of words.

A person who avoids sensory pleasures and physical comforts

- Ans
- 1. Bohemian
 - 2. Ascetic
 - 3. Epicurean
 - 4. Frugal

Question ID : 264330151869
Option 1 ID : 264330595096
Option 2 ID : 264330595095
Option 3 ID : 264330595098
Option 4 ID : 264330595097
Status : Answered
Chosen Option : 2

Q.9 Select the most appropriate meaning of the underlined segment in the given sentence.
Our team is all on the same page when it comes to our goals for the upcoming project.

- Ans
- 1. Be confused
 - 2. Be unsure
 - 3. Be in agreement
 - 4. Be in conflict

Question ID : 264330152927
Option 1 ID : 264330599289
Option 2 ID : 264330599290
Option 3 ID : 264330599287
Option 4 ID : 264330599288
Status : Answered
Chosen Option : 3

Q.10 The following sentence has been split into four segments. Identify the segment that contains an error.

Mr Sharma would have left / the station / by this time / tomorrow.

- Ans
- 1. Mr Sharma would have left
 - 2. tomorrow
 - 3. the station
 - 4. by this time

Question ID : 264330143051
Option 1 ID : 264330560479
Option 2 ID : 264330560482
Option 3 ID : 264330560480
Option 4 ID : 264330560481
Status : Answered
Chosen Option : 1

Q.11 Select the most appropriate option that can substitute the underlined segment in the given sentence.

France is a largest country.

- Ans
- 1. smallest
 - 2. larger
 - 3. smaller
 - 4. large

Question ID : 264330155422
Option 1 ID : 264330609098
Option 2 ID : 264330609096
Option 3 ID : 264330609097
Option 4 ID : 264330609095
Status : Answered
Chosen Option : 4

Q.12 Select the INCORRECTLY spelt word.

- Ans
- 1. Expose
 - 2. Convict
 - 3. Confess
 - 4. Chivalrous

Question ID : 264330152944
Option 1 ID : 264330599356
Option 2 ID : 264330599358
Option 3 ID : 264330599357
Option 4 ID : 264330599355
Status : Answered
Chosen Option : 3

Q.13 Select the most appropriate option that can substitute the underlined segment in the given sentence.

No sooner had the sun risen over the horizon when the birds began to chirp and the squirrels started to scamper around the park.

- Ans
- 1. when birds began
 - 2. when the birds begin
 - 3. than the birds began
 - 4. than birds begin

Question ID : 264330151857
Option 1 ID : 264330595048
Option 2 ID : 264330595050
Option 3 ID : 264330595049
Option 4 ID : 264330595047
Status : Answered
Chosen Option : 3

Q.14 Select the most appropriate ANTONYM of the given word.
Clumsy

- Ans 1. Nervous
 2. Jealous
 3. Fierce
 4. Graceful

Question ID : 264330151916
Option 1 ID : 264330595281
Option 2 ID : 264330595279
Option 3 ID : 264330595282
Option 4 ID : 264330595280
Status : Answered
Chosen Option : 4

Q.15 Select the option that can be used as a one-word substitute for the given group of words.
A person living in solitude like a saint for religious practices.

- Ans 1. Heretic
 2. Hermit
 3. Heir
 4. Cretin

Question ID : 264330151812
Option 1 ID : 264330594876
Option 2 ID : 264330594875
Option 3 ID : 264330594877
Option 4 ID : 264330594878
Status : Answered
Chosen Option : 1

Q.16 Identify the most appropriate meaning of the given word.
Hope

- Ans 1. Realism
 2. Wish
 3. Caution
 4. Cynicism

Question ID : 264330152572
Option 1 ID : 264330597893
Option 2 ID : 264330597894
Option 3 ID : 264330597891
Option 4 ID : 264330597892
Status : Answered
Chosen Option : 2

Q.17 Select the most appropriate meaning of the underlined idiom in the following sentence.

“Do not turn a blind eye to all the mischief your child is up to”, the teacher told the young parent.

- Ans 1. Pretend not to notice
 2. Give rewards
 3. Close the door
 4. Take pride in

Question ID : 264330153051
Option 1 ID : 264330599773
Option 2 ID : 264330599774
Option 3 ID : 264330599772
Option 4 ID : 264330599771
Status : Answered
Chosen Option : 1

Q.18 The following sentence has been split into four segments. Identify the segment that contains a grammatical error.
I had / a bad habit of / waking up / lately.

- Ans 1. a bad habit of
 2. waking up
 3. lately
 4. I had

Question ID : 264330153185
Option 1 ID : 264330600300
Option 2 ID : 264330600301
Option 3 ID : 264330600302
Option 4 ID : 264330600299
Status : Answered
Chosen Option : 3

Q.19 Select the most appropriate synonym of the bracketed word in the following sentence to fill in the blank.
She's reading a _____ (secrecy) novel and can't wait to find out who the killer is.

- Ans 1. mystery
 2. complication
 3. difficulty
 4. crisis

Question ID : 264330152660
Option 1 ID : 264330598244
Option 2 ID : 264330598245
Option 3 ID : 264330598243
Option 4 ID : 264330598246
Status : Answered
Chosen Option : 1

Q.20 Select the most appropriate option to fill in the blank.

During the meeting, he went on a long and angry _____ about how the project was being mismanaged.

- Ans
- 1. shout
 - 2. rant
 - 3. mutter
 - 4. whisper

Question ID : 264330151860

Option 1 ID : 264330595062

Option 2 ID : 264330595059

Option 3 ID : 264330595061

Option 4 ID : 264330595060

Status : Answered

Chosen Option : 1

Comprehension:

In the following passage, some words have been deleted. Read the passage carefully and select the most appropriate option to fill in each blank.

Once there was a king named Midas who was granted a (1)_____ by Dionysus, the god of wine. For his wish, Midas asked that whatever he (2)_____ would turn to gold. Despite Dionysus' efforts to prevent it, Midas pleaded that this was a fantastic wish, and so, it was bestowed. Excited about his newly-earned (3)_____, Midas started touching all kinds of things, turning each item into pure gold. But soon, Midas became (4)_____. As he picked up a piece of food, he found he couldn't eat it. It had turned to gold in his hand. Hungry, Midas groaned, "I'll starve! Perhaps this was not such an excellent wish after all!" Seeing his dismay, Midas' (5)_____ daughter threw her arms around him to comfort him, and she, too, turned to gold. "The golden touch is no blessing," Midas cried.

SubQuestion No : 21

Q.21 Select the most appropriate option to fill in blank number 1.

- Ans
- 1. job
 - 2. employment
 - 3. slavery
 - 4. wish

Question ID : 264330153525

Option 1 ID : 264330601607

Option 2 ID : 264330601608

Option 3 ID : 264330601610

Option 4 ID : 264330601609

Status : Answered

Chosen Option : 4

Comprehension:

In the following passage, some words have been deleted. Read the passage carefully and select the most appropriate option to fill in each blank.

Once there was a king named Midas who was granted a (1)_____ by Dionysus, the god of wine. For his wish, Midas asked that whatever he (2)_____ would turn to gold. Despite Dionysus' efforts to prevent it, Midas pleaded that this was a fantastic wish, and so, it was bestowed. Excited about his newly-earned (3)_____, Midas started touching all kinds of things, turning each item into pure gold. But soon, Midas became (4)_____. As he picked up a piece of food, he found he couldn't eat it. It had turned to gold in his hand. Hungry, Midas groaned, "I'll starve! Perhaps this was not such an excellent wish after all!" Seeing his dismay, Midas' (5)_____ daughter threw her arms around him to comfort him, and she, too, turned to gold. "The golden touch is no blessing," Midas cried.

SubQuestion No : 22

Q.22 Select the most appropriate option to fill in blank number 2.

- Ans 1. next felt
 2. kept
 3. left
 4. touched

Question ID : 264330153526

Option 1 ID : 264330601614

Option 2 ID : 264330601611

Option 3 ID : 264330601613

Option 4 ID : 264330601612

Status : Answered

Chosen Option : 4

Comprehension:

In the following passage, some words have been deleted. Read the passage carefully and select the most appropriate option to fill in each blank.

Once there was a king named Midas who was granted a (1)_____ by Dionysus, the god of wine. For his wish, Midas asked that whatever he (2)_____ would turn to gold. Despite Dionysus' efforts to prevent it, Midas pleaded that this was a fantastic wish, and so, it was bestowed. Excited about his newly-earned (3)_____, Midas started touching all kinds of things, turning each item into pure gold. But soon, Midas became (4)_____. As he picked up a piece of food, he found he couldn't eat it. It had turned to gold in his hand. Hungry, Midas groaned, "I'll starve! Perhaps this was not such an excellent wish after all!" Seeing his dismay, Midas' (5)_____ daughter threw her arms around him to comfort him, and she, too, turned to gold. "The golden touch is no blessing," Midas cried.

SubQuestion No : 23

Q.23 Select the most appropriate option to fill in blank number 3.

- Ans 1. legacies
 2. visuals
 3. powers
 4. awards

Question ID : 264330153527

Option 1 ID : 264330601618

Option 2 ID : 264330601616

Option 3 ID : 264330601615

Option 4 ID : 264330601617

Status : Answered

Chosen Option : 3

Comprehension:

In the following passage, some words have been deleted. Read the passage carefully and select the most appropriate option to fill in each blank.

Once there was a king named Midas who was granted a (1)_____ by Dionysus, the god of wine. For his wish, Midas asked that whatever he (2)_____ would turn to gold. Despite Dionysus' efforts to prevent it, Midas pleaded that this was a fantastic wish, and so, it was bestowed. Excited about his newly-earned (3)_____, Midas started touching all kinds of things, turning each item into pure gold. But soon, Midas became (4)_____. As he picked up a piece of food, he found he couldn't eat it. It had turned to gold in his hand. Hungry, Midas groaned, "I'll starve! Perhaps this was not such an excellent wish after all!" Seeing his dismay, Midas' (5)_____ daughter threw her arms around him to comfort him, and she, too, turned to gold. "The golden touch is no blessing," Midas cried.

SubQuestion No : 24

Q.24 Select the most appropriate option to fill in blank number 4.

- Ans 1. hungry
 2. tired
 3. angry
 4. mad

Question ID : 264330153528

Option 1 ID : 264330601622

Option 2 ID : 264330601621

Option 3 ID : 264330601619

Option 4 ID : 264330601620

Status : Answered

Chosen Option : 1

Comprehension:

In the following passage, some words have been deleted. Read the passage carefully and select the most appropriate option to fill in each blank.

Once there was a king named Midas who was granted a (1)_____ by Dionysus, the god of wine. For his wish, Midas asked that whatever he (2)_____ would turn to gold. Despite Dionysus' efforts to prevent it, Midas pleaded that this was a fantastic wish, and so, it was bestowed. Excited about his newly-earned (3)_____, Midas started touching all kinds of things, turning each item into pure gold. But soon, Midas became (4)_____. As he picked up a piece of food, he found he couldn't eat it. It had turned to gold in his hand. Hungry, Midas groaned, "I'll starve! Perhaps this was not such an excellent wish after all!" Seeing his dismay, Midas' (5)_____ daughter threw her arms around him to comfort him, and she, too, turned to gold. "The golden touch is no blessing," Midas cried.

SubQuestion No : 25

Q.25 Select the most appropriate option to fill in blank number 5.

- Ans 1. estranged
 2. guarded
 3. beloved
 4. hated

Question ID : 264330153529

Option 1 ID : 264330601624

Option 2 ID : 264330601626

Option 3 ID : 264330601623

Option 4 ID : 264330601625

Status : Answered

Chosen Option : 3

Multi Tasking Non Technical Staff and Havaladar CBIC and CBN Examination 2023

Roll Number	KD Job Updates
Candidate Name	KD Job Updates
Venue Name	iON Digital Zone IDZ Powai
Exam Date	11/09/2023
Exam Time	9:00 AM - 11:00 AM
Subject	MTS Non Tech Havaladar CBIC and CBN Examination 2023

Section : Numerical and Mathematical Ability

Q.1 कितनी धनराशि (₹ में) पांच वर्षों में 6% वार्षिक साधारण ब्याज की दर से ₹1,800 का ब्याज अर्जित करेगी?

- Ans
- 1. 8,000
 - 2. 5,000
 - 3. 18,000
 - 4. 6,000

Question ID : 264330156484

Option 1 ID : 264330613325

Option 2 ID : 264330613324

Option 3 ID : 264330613326

Option 4 ID : 264330613323

Status : Answered

Chosen Option : 4

Q.2 यदि 16 बल्बों का विक्रय मूल्य 24 बल्बों के क्रय मूल्य के बराबर है, तो लाभ प्रतिशत क्या है?

- Ans
- 1. 25%
 - 2. 40%
 - 3. 20%
 - 4. 50%

Question ID : 264330161014

Option 1 ID : 264330631389

Option 2 ID : 264330631388

Option 3 ID : 264330631387

Option 4 ID : 264330631390

Status : Answered

Chosen Option : 4

Q.3 $2a$ और $5a$ का चतुर्थ समानुपाती _____ है।

Ans

1. $\frac{2a^2}{5}$

2. $\frac{5a^2}{2}$

3. $\frac{2a^2}{3}$

4. $\frac{5a^2}{3}$

Question ID : 264330153809

Option 1 ID : 264330602702

Option 2 ID : 264330602701


Option 3 ID : 264330602699

Option 4 ID : 264330602700

Status : Answered

Chosen Option : 2

Q.4 निम्न दंड आलेख में बारहवीं कक्षा के 6 श्रेणीयों के छात्रों द्वारा गणित की परीक्षा (100 में से) में प्राप्त किए गए औसत अंकों को दर्शाया गया है।



संदर्भ: Average Marks Scored in Mathematics by student of 6 divisions of 12th class - 12^{वीं} कक्षा के 6 श्रेणीयों के छात्रों द्वारा गणित में प्राप्त किए गए औसत अंक, Average marks scored - प्राप्त किए गए औसत अंक, Divisions of class 12th - कक्षा 12^{वीं} की श्रेणीयां श्रेणी B और श्रेणी D द्वारा प्राप्त किए गए औसत अंकों का अनुपात कितना है?

Ans

1. 1 : 3

2. 9 : 13

3. 1 : 9

4. 13 : 9

Question ID : 264330154101

Option 1 ID : 264330603869

Option 2 ID : 264330603867

Option 3 ID : 264330603870

Option 4 ID : 264330603868

Status : Answered

Chosen Option : 2

Q.5 मोहन एक काम को 24 दिनों में पूरा कर सकता है। उसने 6 दिन तक काम किया और फिर काम छोड़ दिया। इसके बाद, सोहन ने शेष काम को 21 दिनों में पूरा किया। मोहन और सोहन मिलकर इसे कितने दिनों में पूरा कर सकते हैं?

- Ans**
- 1. $12\frac{9}{13}$ दिन
 - 2. $12\frac{10}{13}$ दिन
 - 3. $12\frac{12}{13}$ दिन
 - 4. $12\frac{11}{13}$ दिन

Question ID : 264330156238

Option 1 ID : 264330612351

Option 2 ID : 264330612352

Option 3 ID : 264330612354

Option 4 ID : 264330612353

Status : Answered

Chosen Option : 3

Q.6 12वीं कक्षा के कुछ विद्यार्थियों का औसत भार 56 kg है। जब सात विद्यार्थी जिनका औसत भार 58 kg है, कक्षा में शामिल हुए, तो सभी विद्यार्थियों के औसत भार में 200 gm की वृद्धि हो गई। शुरुआत में कक्षा में विद्यार्थियों की संख्या ज्ञात कीजिए?

- Ans**
- 1. 63
 - 2. 56
 - 3. 49
 - 4. 77

Question ID : 264330156548

Option 1 ID : 264330613581

Option 2 ID : 264330613580

Option 3 ID : 264330613579

Option 4 ID : 264330613582

Status : Answered

Chosen Option : 1

Q.7 ₹2,000 की धनराशि 2 वर्षों में ₹2,880 हो जाती है। वार्षिक रूप से संयोजित होने पर ब्याज की दर क्या होगी?

- Ans**
- 1. 10%
 - 2. 20%
 - 3. 12%
 - 4. 28%

Question ID : 264330154054

Option 1 ID : 264330603679

Option 2 ID : 264330603681

Option 3 ID : 264330603682

Option 4 ID : 264330603680

Status : Answered

Chosen Option : 2

Q.8 एक किले में 160 आदमियों के लिए 94 दिन का भोजन था। 10 दिनों के बाद 20 लोग किले को छोड़कर चले गए। समान उपभोग दर से भोजन कितने समय (दिनों में) चलेगा?

- Ans
- 1. 84
 - 2. 100
 - 3. 96
 - 4. 90

Question ID : 264330156495
Option 1 ID : 264330613368
Option 2 ID : 264330613367
Option 3 ID : 264330613369
Option 4 ID : 264330613370
Status : Answered
Chosen Option : 3

Q.9 1288, 230, 276 का लघुत्तम समापवर्त्य ज्ञात कीजिए।

- Ans
- 1. 6,440
 - 2. 19,230
 - 3. 9,660
 - 4. 19,320

Question ID : 264330156092
Option 1 ID : 264330611770
Option 2 ID : 264330611767
Option 3 ID : 264330611769
Option 4 ID : 264330611768
Status : Answered
Chosen Option : 4

Q.10 क्रमशः 5 cm और 6 cm आंतरिक और बाह्य त्रिज्याओं वाले एक खोखले धातु के गोले को पिघलाकर 5.2 cm आधार की त्रिज्या के एक ठोस शंकु में ढाला जाता है। शंकु की ऊंचाई (cm में, दशमलव के 1 स्थान तक सन्निकटित) क्या है?

- Ans
- 1. 14.5
 - 2. 11.8
 - 3. 13.5
 - 4. 12.8

Question ID : 264330153794
Option 1 ID : 264330602640
Option 2 ID : 264330602641
Option 3 ID : 264330602642
Option 4 ID : 264330602639
Status : Answered
Chosen Option : 3

Q.11 निम्नलिखित तालिका का अध्ययन कीजिए और उसके नीचे दिए गए प्रश्न का उत्तर दीजिए।
तालिका में व्यावसायिक पाठ्यक्रमों के अनुसार छात्रों का वितरण दर्शाया गया है।

क्रमांक	पाठ्यक्रम	संकाय			
		कला		विज्ञान	
		लड़कियां	लड़के	लड़कियां	लड़के
1.	व्यवसाय प्रबंधन	25	45	25	65
2.	टाइप राइटिंग	23	186	20	32
3.	लागत लेखांकन	25	120	12	58
4.	टाइपिंग राइटिंग और लागत लेखांकन	12	100	3	5

केवल लागत लेखांकन करने वाले कला संकाय के छात्रों का प्रतिशत कितना है (निकटतम पूर्णांक तक)?

- Ans
- 1. 18
 - 2. 10
 - 3. 15
 - 4. 27

Question ID : 264330156351

Option 1 ID : 264330612805

Option 2 ID : 264330612803

Option 3 ID : 264330612804

Option 4 ID : 264330612806

Status : Answered

Chosen Option : 1

Q.12 यदि निर्माता को 10% का लाभ होता है, थोक व्यापारी को 12% का लाभ होता है और खुदरा विक्रेता को 15% का लाभ होता है, तो एक मेज की उत्पादन लागत ज्ञात कीजिए, जिसका खुदरा मूल्य ₹1,771 है।

- Ans
- 1. ₹1,150
 - 2. ₹1,050
 - 3. ₹1,350
 - 4. ₹1,250

Question ID : 264330155998

Option 1 ID : 264330611393

Option 2 ID : 264330611391

Option 3 ID : 264330611394

Option 4 ID : 264330611392

Status : Answered

Chosen Option : 4

Q.13 200 km लंबी सीधी सड़क के विपरीत छोरों से दो साइकिल सवार एक ही समय पर चलना शुरू करते हैं। एक साइकिल सवार 20 km/h की चाल से और दूसरा 30 km/h की चाल से यात्रा करता है। उन्हें मिलने में कितना समय लगेगा?

- Ans
- 1. 5 घंटे
 - 2. 4 घंटे
 - 3. 5.5 घंटे
 - 4. 4.5 घंटे

Question ID : 264330156274

Option 1 ID : 264330612497

Option 2 ID : 264330612495

Option 3 ID : 264330612498

Option 4 ID : 264330612496

Status : Answered

Chosen Option : 2

Q.14 यदि रीता के वेतन में पहले वर्ष में 5% और अगले वर्ष में 2% की वृद्धि होती है, तो दो वर्ष बाद उसके वेतन में निवल प्रतिशत वृद्धि कितनी है?

- Ans
- 1. 8.1%
 - 2. 5.1%
 - 3. 6.1%
 - 4. 7.1%

Question ID : 264330156218

Option 1 ID : 264330612274

Option 2 ID : 264330612271

Option 3 ID : 264330612272

Option 4 ID : 264330612273

Status : Answered

Chosen Option : 4

Q.15 $3\frac{1}{2} - [2\frac{1}{4} \div \{1\frac{1}{4} - \frac{3}{4}(1\frac{1}{2} - \frac{1}{2} - 2\frac{1}{2})\}]$ का मान ज्ञात कीजिए।

- Ans
- 1. $1\frac{21}{38}$
 - 2. $2\frac{19}{18}$
 - 3. $2\frac{21}{38}$
 - 4. $\frac{47}{38}$

Question ID : 264330154038

Option 1 ID : 264330603618

Option 2 ID : 264330603615

Option 3 ID : 264330603616

Option 4 ID : 264330603617

Status : Answered

Chosen Option : 3

Q.16 अरविंद, बिलाल, कारमेन एक व्यवसाय में ₹49,000 का निवेश करते हैं। अरविंद, बिलाल से ₹5,000 अधिक का निवेश करता है और बिलाल, कारमेन से ₹4,000 अधिक का निवेश करता है। ₹98,000 के कुल लाभ में से बिलाल को कितनी धनराशि प्राप्त होगी?

- Ans
- 1. ₹30,500
 - 2. ₹33,200
 - 3. ₹34,400
 - 4. ₹32,000

Question ID : 264330156108

Option 1 ID : 264330611833

Option 2 ID : 264330611834

Option 3 ID : 264330611831

Option 4 ID : 264330611832

Status : Answered

Chosen Option : 4

Q.17 पानी की कुछ मात्रा में, इस मात्रा से चार गुना दूध की मात्रा मिलाई जाती है और अब मिश्रण की मात्रा 7.5 लीटर हो जाती है। मिश्रण में 90% दूध होने के लिए मिश्रण में कितना और दूध मिलाया जाना चाहिए?

- Ans
- ✓ 1. 7.5 लीटर
 - ✗ 2. 9.5 लीटर
 - ✗ 3. 6 लीटर
 - ✗ 4. 9 लीटर

Question ID : 264330153800
Option 1 ID : 264330602664
Option 2 ID : 264330602666
Option 3 ID : 264330602663
Option 4 ID : 264330602665
Status : Answered
Chosen Option : 1

Q.18 यदि दो संख्याओं का औसत 12 है और उन्हीं दो संख्याओं का गुणनफल 119 है, तो उन दोनों संख्याओं का अंतर कितना है?

- Ans
- ✗ 1. 7
 - ✓ 2. 10
 - ✗ 3. 6
 - ✗ 4. 8

Question ID : 264330156508
Option 1 ID : 264330613420
Option 2 ID : 264330613421
Option 3 ID : 264330613422
Option 4 ID : 264330613419
Status : Answered
Chosen Option : 2

Q.19 यदि तीन कारों द्वारा एक निश्चित दूरी तय करने में लगने वाले समय का अनुपात 2 : 3 : 5 है, तो इन कारों की चालों का अनुपात कितना होगा?

- Ans
- ✗ 1. 10 : 6 : 15
 - ✗ 2. 15 : 9 : 8
 - ✓ 3. 15 : 10 : 6
 - ✗ 4. 10 : 15 : 8

Question ID : 264330156292
Option 1 ID : 264330612567
Option 2 ID : 264330612570
Option 3 ID : 264330612569
Option 4 ID : 264330612568
Status : Answered
Chosen Option : 3

Q.20 7 cm व्यास वाले एक गोले का आयतन (cm^3 में) ज्ञात कीजिए।

($\pi = \frac{22}{7}$ का प्रयोग कीजिए)

- Ans
- 1. 186.44
 - 2. 197.66
 - 3. 168.44
 - 4. 179.66

Question ID : 264330156368

Option 1 ID : 264330612872

Option 2 ID : 264330612871

Option 3 ID : 264330612874

Option 4 ID : 264330612873

Status : Answered

Chosen Option : 4

Section : Reasoning Ability and Problem Solving

KD Job Updates

Q.1 यदि निम्नलिखित आकृति श्रृंखला को जारी रखना हो तो कौन-सी आकृति प्रश्न चिन्ह (?) के स्थान पर आनी चाहिए?

7	V	C	7	=	C	□	=					
=	↑	Z	Z	V	=	V	3	7	7	C	V	?
3	D	↑	3	Z	↑	3	Z					

Ans

✗ 1.

	=	V
3	7	□
Z	C	

✗ 2.

	=	V
C	Z	□
7	3	

✓ 3.

	V	□
C	Z	=
7	3	

✗ 4.

	V	□
3	7	=
Z	C	

Question ID : 264330154761
 Option 1 ID : 264330606508
 Option 2 ID : 264330606509
 Option 3 ID : 264330606507
 Option 4 ID : 264330606510
 Status : Answered
 Chosen Option : 3

Q.2 यदि शब्द 'CHILDREN' के प्रत्येक अक्षर को अंग्रेज़ी वर्णमाला के क्रम में व्यवस्थित किया जाए तो कितने अक्षरों का स्थान अपरिवर्तित रहेगा?

- Ans
- ✓ 1. एक
 - ✗ 2. चार
 - ✗ 3. दो
 - ✗ 4. तीन

Question ID : 264330154328
 Option 1 ID : 264330604775
 Option 2 ID : 264330604776
 Option 3 ID : 264330604777
 Option 4 ID : 264330604778
 Status : Answered
 Chosen Option : 1

Q.3 दी गई श्रृंखला में प्रश्न चिन्ह '?' के स्थान पर क्या आना चाहिए?

5 23 95 ? 1535 6143 24575

- Ans
- 1. 312
 - 2. 347
 - 3. 361
 - 4. 383

Question ID : 264330151493

Option 1 ID : 264330593599

Option 2 ID : 264330593600

Option 3 ID : 264330593601

Option 4 ID : 264330593602

Status : Answered

Chosen Option : 4

Q.4 नीचे दिए गए कथनों और निष्कर्षों को ध्यानपूर्वक पढ़िए। आपको मानना है कि दिए गए कथन सत्य हैं चाहे वे समान्यतः ज्ञात तथ्यों से अलग प्रतीत होते हों। आपको निश्चय करना है कि कौन-सा/कौन-से निष्कर्ष तार्किक रूप से दिए गए कथनों के अनुसार है/हैं।

कथन: सभी फोन, फूल हैं। कुछ फूल, थैले हैं। सभी थैले, भारी हैं।

निष्कर्ष I: कुछ फोन, फूल हैं।

निष्कर्ष II: सभी फूल, थैले हैं।

- Ans
- 1. केवल निष्कर्ष (I) कथनों के अनुसार है।
 - 2. केवल निष्कर्ष (II) कथनों के अनुसार है।
 - 3. न तो निष्कर्ष (I) और न ही (II) कथनों के अनुसार है।
 - 4. दोनों निष्कर्ष (I) और (II) कथनों के अनुसार है।

Question ID : 264330155907

Option 1 ID : 264330611031

Option 2 ID : 264330611032

Option 3 ID : 264330611033

Option 4 ID : 264330611034

Status : Answered

Chosen Option : 1

Q.5 उस शब्द-युग्म का चयन कीजिए जो नीचे दिए गए शब्दों के युग्म में व्यक्त किए गए समान संबंध का सबसे अच्छा निरूपण करता है।

(शब्दों को अर्थपूर्ण हिंदी शब्दों के रूप में माना जाना चाहिए और उन्हें शब्द में अक्षरों की संख्या/व्यंजन/स्वरों की संख्या के आधार पर एक दूसरे से संबंधित नहीं किया जाना चाहिए।)

चित्र-परिचय : नक्शा

- Ans**
- ✓ 1. शब्दावली : पाठ
 - ✗ 2. वॉल्यूम : गाइडबुक
 - ✗ 3. पेशा : जीवनी
 - ✗ 4. पत्रभाग : निबंध

Question ID : 264330154642
Option 1 ID : 264330606033
Option 2 ID : 264330606031
Option 3 ID : 264330606032
Option 4 ID : 264330606034
Status : Answered
Chosen Option : 4

Q.6 छः लोग, दीपक, गोरी, बबीता, इरा, फरहीन और हेमा एक सीधी पंक्ति में उत्तर की ओर मुख करके बैठे हैं। दीपक बाईं ओर के छोर से दूसरे स्थान पर बैठा है। गोरी, दीपक के दाईं ओर से दूसरे स्थान पर बैठी है। इरा, गोरी के दाईं ओर से दूसरे स्थान पर बैठी है। फरहीन, इरा के बाईं ओर से तीसरे स्थान पर बैठी है। बबीता, फरहीन के बाईं ओर से दूसरे स्थान पर बैठी है। दीपक के दाईं ओर से तीसरे स्थान पर कौन बैठा/बैठी है?

- Ans**
- ✗ 1. इरा
 - ✗ 2. फरहीन
 - ✓ 3. हेमा
 - ✗ 4. बबीता

Question ID : 264330155661
Option 1 ID : 264330610048
Option 2 ID : 264330610050
Option 3 ID : 264330610047
Option 4 ID : 264330610049
Status : Answered
Chosen Option : 3

Q.7 दी गई श्रृंखला में प्रश्न चिन्ह '?' के स्थान पर क्या आना चाहिए?

4 19 79 319 1279 ?

- Ans**
- ✗ 1. 5299
 - ✗ 2. 4913
 - ✓ 3. 5119
 - ✗ 4. 4875

Question ID : 264330151459
Option 1 ID : 264330593466
Option 2 ID : 264330593464
Option 3 ID : 264330593465
Option 4 ID : 264330593463
Status : Answered
Chosen Option : 3

Q.8 दी गई श्रृंखला में प्रश्न चिन्ह '?' के स्थान पर क्या आना चाहिए?

11 59 299 1499 7499 ?

- Ans
- 1. 38499
 - 2. 37499
 - 3. 37699
 - 4. 38199

Question ID : 264330151469

Option 1 ID : 264330593506

Option 2 ID : 264330593503

Option 3 ID : 264330593504

Option 4 ID : 264330593505

Status : Answered

Chosen Option : 2

Q.9 यदि '+' और '-' को आपस में बदल दिया जाए तथा 'x' और '+' को आपस में बदल दिया जाए तो निम्नलिखित समीकरण में (?) के स्थान पर क्या आएगा?

$$23 \div 2 + 41 - 84 \times 14 = ?$$

- Ans
- 1. 21
 - 2. 11
 - 3. 31
 - 4. 1

Question ID : 264330155668

Option 1 ID : 264330610075

Option 2 ID : 264330610076

Option 3 ID : 264330610077

Option 4 ID : 264330610078

Status : Answered

Chosen Option : 2

Q.10 दी गई आकृति के उस सही दर्पण प्रतिबिंब को चुनिए, जो नीचे दर्शाए गए अनुसार दर्पण को MN पर रखने पर बनेगा।



- Ans
- 1. K p 5 7 z 4 r
 - 2. K q 2 7 z 4 r
 - 3. K q 5 7 z 4 r
 - 4. K q 5 7 z 4 r

Question ID : 264330151506

Option 1 ID : 264330593654

Option 2 ID : 264330593651

Option 3 ID : 264330593652

Option 4 ID : 264330593653

Status : Answered

Chosen Option : 3

Q.11 नीचे दिए गए कथनों और निष्कर्षों को ध्यानपूर्वक पढ़िए। आपको मानना है कि दिए गए कथन सत्य हैं चाहे वे समान्यतः ज्ञात तथ्यों से अलग प्रतीत होते हों। आपको निश्चय करना है कि कौन-सा/कौन-से निष्कर्ष तार्किक रूप से दिए गए कथनों के अनुसार है/हैं।

कथन: सभी टॉर्च, गिटार हैं। कुछ गिटार, बल्ब हैं। कोई बल्ब, चूल्हा नहीं है।

निष्कर्ष I: सभी बल्ब, गिटार हैं।
निष्कर्ष II: कोई गिटार, टॉर्च नहीं है।

- Ans**
- 1. दोनों निष्कर्ष (I) और (II) कथनों के अनुसार हैं।
 - 2. केवल निष्कर्ष (I) कथनों के अनुसार है।
 - 3. केवल निष्कर्ष (II) कथनों के अनुसार है।
 - 4. न तो निष्कर्ष (I) और न ही (II) कथनों के अनुसार है।

Question ID : 264330155912

Option 1 ID : 264330611054

Option 2 ID : 264330611051

Option 3 ID : 264330611052

Option 4 ID : 264330611053

Status : Answered

Chosen Option : 4

Q.12 अंग्रेजी वर्णमाला क्रम के आधार पर दी गई श्रृंखला में प्रश्न चिह्न (?) के स्थान पर क्या आना चाहिए?

CSP, EUQ, GWR, IYS, ?

- Ans**
- 1. KAT
 - 2. JAR
 - 3. LBT
 - 4. JBS

Question ID : 264330155783

Option 1 ID : 264330610535

Option 2 ID : 264330610537

Option 3 ID : 264330610538

Option 4 ID : 264330610536

Status : Answered

Chosen Option : 1

Q.13 एक निश्चित कूट भाषा में, 'yes you can' को 'an cf dt' लिखा जाता है और 'you are enough' को 'sk dt hw' लिखा जाता है। उसी कूट भाषा में 'you' को कैसे लिखा जाएगा?

- Ans**
- 1. dt
 - 2. cf
 - 3. sk
 - 4. hw

Question ID : 264330151706

Option 1 ID : 264330594452

Option 2 ID : 264330594451

Option 3 ID : 264330594454

Option 4 ID : 264330594453

Status : Answered

Chosen Option : 1

Q.14 निम्नलिखित संख्या-युग्मों में, पहली संख्या पर कुछ गणितीय संक्रियाएँ करके दूसरी संख्या प्राप्त की जाती है। उस समुच्चय को चुनिए जिसमें संख्याएँ ठीक उसी प्रकार संबंधित हैं जिस प्रकार निम्नलिखित समुच्चयों की संख्याएँ संबंधित हैं।

(ध्यान दें: संख्याओं को उनके घटक अंकों में अलग-अलग किए बिना, पूर्ण संख्याओं पर संक्रियाएँ की जानी चाहिए। उदा. 13 – संख्या 13 पर संक्रियाएँ जैसे 13 को जोड़ना/घटाना/गुणा करना आदि किया जा सकता है। 13 को 1 और 3 में अलग-अलग करने की ओर फिर 1 और 3 पर गणितीय संक्रियाएँ करने की अनुमति नहीं है।)

8, 128

9, 162

Ans ✓ 1. 14, 392

✗ 2. 11, 124

✗ 3. 13, 170

✗ 4. 12, 149

Question ID : 264330151619

Option 1 ID : 264330594106

Option 2 ID : 264330594103

Option 3 ID : 264330594105

Option 4 ID : 264330594104

Status : Answered

Chosen Option : 1

KD Job Updates

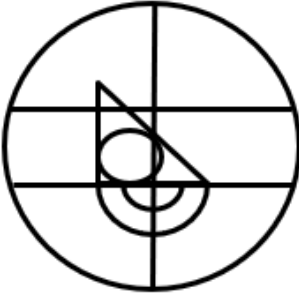
Q.15 उस विकल्प आकृति को चुनिए जिसमें दी गई आकृति (X) उसके भाग के रूप में निहित है। (पूर्ण की अनुमति नहीं है)



(X)

Ans

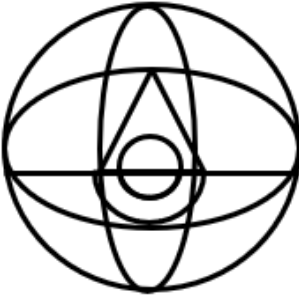
✗ 1.



✓ 2.



✗ 3.



✗ 4.



Question ID : 264330151725

Option 1 ID : 264330594527

Option 2 ID : 264330594530

Option 3 ID : 264330594529

Option 4 ID : 264330594528

Status : Answered

Chosen Option : 2

Q.16 उस सही विकल्प को चुनिए, जिसे दी गई श्रृंखला के रिक्त स्थानों में इसी क्रम में रखने पर श्रृंखला तार्किक रूप से पूरी हो जाएगी।

BK_Y_KUT R_PO MKK_HK_E

- Ans
- ✓ 1. ZWKJF
 - ✗ 2. WKBFP
 - ✗ 3. ZKWLF
 - ✗ 4. WBHZP

Question ID : 264330154729

Option 1 ID : 264330606382

Option 2 ID : 264330606379

Option 3 ID : 264330606380

Option 4 ID : 264330606381

Status : Answered

Chosen Option : 1

Q.17 निम्नलिखित संख्या-युग्मों में, पहली संख्या पर कुछ गणितीय संक्रियाएँ करके दूसरी संख्या प्राप्त की जाती है। उस समुच्चय को चुनिए जिसमें संख्याएँ ठीक उसी प्रकार संबंधित हैं जिस प्रकार निम्नलिखित समुच्चयों की संख्याएँ संबंधित हैं।
(ध्यान दें: संख्याओं को उनके घटक अंकों में अलग-अलग किए बिना, पूर्ण संख्याओं पर संक्रियाएँ की जानी चाहिए। उदा. 13 – संख्या 13 पर संक्रियाएँ जैसे 13 को जोड़ना/घटाना/गुणा करना आदि किया जा सकता है। 13 को 1 और 3 में अलग-अलग करने की ओर फिर 1 और 3 पर गणितीय संक्रियाएँ करने की अनुमति नहीं है।)

16 : 41

11 : 26

- Ans
- ✗ 1. 7 : 28
 - ✗ 2. 21 : 84
 - ✗ 3. 5 : 15
 - ✓ 4. 12 : 29

Question ID : 264330154650

Option 1 ID : 264330606065

Option 2 ID : 264330606063

Option 3 ID : 264330606066

Option 4 ID : 264330606064

Status : Answered

Chosen Option : 4

Q.18 अक्षरों के उस संयोजन को चुनिए जिसे दी गई श्रृंखला के रिक्त स्थानों में क्रमिक रूप से रखने पर श्रृंखला पूरी हो जाएगी।

NO_N__NO__ON

- Ans
- ✗ 1. NONON
 - ✗ 2. ONOON
 - ✗ 3. OONO
 - ✓ 4. NONNN

Question ID : 264330151653

Option 1 ID : 264330594239

Option 2 ID : 264330594242

Option 3 ID : 264330594240

Option 4 ID : 264330594241

Status : Answered

Chosen Option : 4

Q.19 एक निश्चित कूट भाषा में, 'BACK' को '17' लिखा जाता है और 'DIDC' को '31' लिखा जाता है। उस कूट भाषा में 'JAAM' को कैसे लिखा जाएगा?

- Ans
- 1. 20
 - 2. 25
 - 3. 35
 - 4. 40

Question ID : 264330155819
Option 1 ID : 264330610681
Option 2 ID : 264330610679
Option 3 ID : 264330610680
Option 4 ID : 264330610682
Status : Answered
Chosen Option : 2

Q.20 यदि '+' और '-' को आपस में बदल दिया जाए और 'x' और '÷' को आपस में बदल दिया जाए तो निम्नलिखित समीकरण में '?' के स्थान पर क्या आएगा?
 $15 - 6 + 12 \times 3 + 4 = ?$

- Ans
- 1. 9
 - 2. 5
 - 3. 7
 - 4. 10

Question ID : 264330154662
Option 1 ID : 264330606113
Option 2 ID : 264330606112
Option 3 ID : 264330606114
Option 4 ID : 264330606111
Status : Answered
Chosen Option : 2

Section : General Awareness

Q.1 शहरीकरण के कारण, मानव जीवनशैली में गंभीर बदलाव आया है; ऐसी स्थिति में मोटापा एक प्रमुख स्वास्थ्य समस्या है। निम्नलिखित में से कौन-सा, मोटापे का कारण है?

- Ans
- 1. पानी की अत्यधिक खपत
 - 2. उच्च कैलोरी वाले खाद्य पदार्थों का अत्यधिक सेवन
 - 3. प्रोटीन की कमी
 - 4. नियमित आहार में विटामिन की कमी

Question ID : 264330156610
Option 1 ID : 264330613828
Option 2 ID : 264330613827
Option 3 ID : 264330613830
Option 4 ID : 264330613829
Status : Answered
Chosen Option : 2

Q.2 भारत के राष्ट्रपति ने 2023 में गुरुचरण सिंह को _____ के क्षेत्र में उनकी विशिष्ट सेवा के लिए पद्म श्री पुरस्कार से सम्मानित किया।

- Ans 1. क्रिकेट
 2. फुटबॉल
 3. बैडमिंटन
 4. टेनिस

Question ID : 264330161443
Option 1 ID : 264330633099
Option 2 ID : 264330633100
Option 3 ID : 264330633101
Option 4 ID : 264330633102
Status : Answered
Chosen Option : 2

Q.3 वेल्डिंग (welding) के लिए व्यापक रूप से उपयोग की जाने वाली ऐसीटिलीन (acetylene) नामक हल्की, ईथरीय गंध (ethereal odour) वाली रंगहीन गैस का प्रणालीगत नाम (systematic name) क्या है?

- Ans 1. एथीन (Ethyne)
 2. एथिल एसीटेट (Ethyl acetate)
 3. एज़ोइथेन (Azoethane)
 4. एथेनॉइक एनहाइड्राइड (Ethanoic anhydride)

Question ID : 264330161050
Option 1 ID : 264330631532
Option 2 ID : 264330631531
Option 3 ID : 264330631534
Option 4 ID : 264330631533
Status : Not Answered
Chosen Option : --

Q.4 निम्नलिखित में से किस राज्य में पहला जनजातीय खेल महोत्सव आयोजित किया गया था?

- Ans 1. आंध्र प्रदेश
 2. ओडिशा
 3. छत्तीसगढ़
 4. झारखंड

Question ID : 264330161127
Option 1 ID : 264330631842
Option 2 ID : 264330631839
Option 3 ID : 264330631841
Option 4 ID : 264330631840
Status : Answered
Chosen Option : 2

Q.5 निम्नलिखित में से केंद्र सरकार का विधायी अंग (legislative organ) कौन-सा है?

- Ans
- 1. कार्यकारिणी
 - 2. मंत्रिमंडल
 - 3. संसद
 - 4. सुप्रीम कोर्ट

Question ID : 264330159920

Option 1 ID : 264330627027

Option 2 ID : 264330627030

Option 3 ID : 264330627028

Option 4 ID : 264330627029

Status : Answered

Chosen Option : 2

Q.6 भारत में 'ऑस (Aus)', 'अमन (Aman)' और 'बोरो (Boro)' शब्द का संबंध निम्नलिखित में से किस फसल से है?

- Ans
- 1. धान
 - 2. गेहूं
 - 3. गन्ना
 - 4. चना

Question ID : 264330161510

Option 1 ID : 264330633368

Option 2 ID : 264330633367

Option 3 ID : 264330633369

Option 4 ID : 264330633370

Status : Answered

Chosen Option : 2

Q.7 यह प्रस्ताव किसने पेश किया कि भारत का राष्ट्रीय ध्वज 'केसरिया, सफेद और गहरे हरे रंग का समान अनुपात में क्षैतिज तिरंगा' होगा?

- Ans
- 1. जवाहर लाल नेहरू
 - 2. महात्मा गांधी
 - 3. सरदार वल्लभभाई पटेल
 - 4. डॉ राजेंद्र प्रसाद

Question ID : 264330161747

Option 1 ID : 264330634316

Option 2 ID : 264330634315

Option 3 ID : 264330634317

Option 4 ID : 264330634318

Status : Not Answered

Chosen Option : --

Q.8 भरतनाट्यम की शास्त्रीय नृत्य शैली _____ राज्य से संबंधित है।

- Ans
- 1. तमिलनाडु
 - 2. असम
 - 3. कर्नाटक
 - 4. राजस्थान

Question ID : 264330159049

Option 1 ID : 264330623556

Option 2 ID : 264330623557

Option 3 ID : 264330623555

Option 4 ID : 264330623558

Status : Answered

Chosen Option : 1

Q.9 अप्रैल 2023 में, सात्विकसाईराज रंकीरेड्डी (Satwiksairaj Rankireddy) और चिराग शेट्टी ने बैडमिंटन एशिया चैंपियनशिप (Badminton Asia Championships) में स्वर्ण पदक जीतने वाले पहले भारतीय पुरुष युगल जोड़ी बनकर इतिहास रचा। यह चैंपियनशिप कहां आयोजित की गई थी?

- Ans
- 1. कतर
 - 2. सिंगापुर
 - 3. दुबई
 - 4. मलेशिया

Question ID : 264330161153
Option 1 ID : 264330631943
Option 2 ID : 264330631946
Option 3 ID : 264330631944
Option 4 ID : 264330631945
Status : Answered
Chosen Option : 2

Q.10 निम्नलिखित में से उस भारतीय गायक/गायिका की पहचान कीजिए, जिसने भारत के पहले प्रधानमंत्री पंडित जवाहरलाल नेहरू के सामने 'ऐ मेरे वतन के लोगों जरा आंख में भरलो पानी...' गाना गाया था।

- Ans
- 1. आशा भोसले
 - 2. मुकेश
 - 3. लता मंगेशकर
 - 4. मोहम्मद रफ़ी

Question ID : 264330160980
Option 1 ID : 264330631252
Option 2 ID : 264330631253
Option 3 ID : 264330631251
Option 4 ID : 264330631254
Status : Answered
Chosen Option : 3

Q.11 15 अगस्त 1947 को औपनिवेशिक शासन से भारत की आजादी के समय निम्नलिखित में से कौन भारत का वायसराय था?

- Ans
- 1. लॉर्ड लिनलिथगो (Lord Linlithgow)
 - 2. लॉर्ड माउंटबेटन (Lord Mountbatten)
 - 3. लॉर्ड विलिंगडन (Lord Willingdon)
 - 4. लॉर्ड वेवेल (Lord Wavell)

Question ID : 264330160824
Option 1 ID : 264330630629
Option 2 ID : 264330630627
Option 3 ID : 264330630630
Option 4 ID : 264330630628
Status : Answered
Chosen Option : 2

Q.12 भारत में कौन-सी नियामक संस्था सूक्ष्म वित्त संस्थानों (Micro Finance Institutions) की देखरेख और विनियमन के लिए जिम्मेदार है?

- Ans
- 1. भारतीय लघु उद्योग विकास बैंक (SIDBI)
 - 2. राष्ट्रीय कृषि और ग्रामीण विकास बैंक (NABARD)
 - 3. भारतीय प्रतिभूति और विनियम बोर्ड (SEBI)
 - 4. भारतीय रिजर्व बैंक (RBI)

Question ID : 264330157285
Option 1 ID : 264330616505
Option 2 ID : 264330616506
Option 3 ID : 264330616504
Option 4 ID : 264330616503
Status : Not Answered
Chosen Option : --

Q.13 श्री नारायण धर्म परिपालन योगम (Shree Narayana Dharma Paripalana Yogam) की स्थापना कहां की गई थी?

- Ans
- 1. कर्नाटक
 - 2. तेलंगाना
 - 3. केरल
 - 4. तमिलनाडु

Question ID : 264330160890
Option 1 ID : 264330630894
Option 2 ID : 264330630893
Option 3 ID : 264330630891
Option 4 ID : 264330630892
Status : Not Answered
Chosen Option : --

Q.14 निम्नलिखित में से कौन-सी फसल काली मिट्टी के लिए सबसे उपयुक्त है?

- Ans
- 1. कपास
 - 2. जौ
 - 3. सोयाबीन
 - 4. मक्का

Question ID : 264330161316
Option 1 ID : 264330632594
Option 2 ID : 264330632593
Option 3 ID : 264330632591
Option 4 ID : 264330632592
Status : Answered
Chosen Option : 1

Q.15 शमा भाटे (Shama Bhate) को निम्नलिखित में से किस नृत्य शैली में उनके योगदान के लिए संगीत नाटक अकादमी पुरस्कार-2021 (फरवरी 2023 में दिया गया) से सम्मानित किया गया?

- Ans
- 1. मोहिनीअट्टम
 - 2. भरतनाट्यम
 - 3. मणिपुरी
 - 4. कथक

Question ID : 264330155518
Option 1 ID : 264330609478
Option 2 ID : 264330609475
Option 3 ID : 264330609477
Option 4 ID : 264330609476
Status : Answered
Chosen Option : 1

Q.16 निम्नलिखित में से कौन-सा सिंधु घाटी स्थल अब पाकिस्तान में स्थित है?

- Ans
- 1. हड़प्पा
 - 2. आलमगीरपुर
 - 3. कालीबंगा
 - 4. लोथल

Question ID : 264330162697
Option 1 ID : 264330638108
Option 2 ID : 264330638107
Option 3 ID : 264330638109
Option 4 ID : 264330638110
Status : Answered
Chosen Option : 1

Q.17 निम्नलिखित में से उपन्यास और उसके लेखक की सही जोड़ी की पहचान कीजिए।

- Ans
- 1. द इनहेरिटेस ऑफ लॉस - अरविंद अडिगा
 - 2. द व्हाइट टाइगर - किरण देसाई
 - 3. ए सूटेबल बॉय - अमिताव घोष
 - 4. सेवन समर्स - मुल्क राज आनंद

Question ID : 264330155501
Option 1 ID : 264330609408
Option 2 ID : 264330609410
Option 3 ID : 264330609407
Option 4 ID : 264330609409
Status : Answered
Chosen Option : 1

Q.18 'द ग्रेट इंडियन नॉवेल' (The Great Indian Novel) _____ का एक व्यंग्य उपन्यास है।

- Ans
- 1. के.आर. नारायण
 - 2. मुंशी प्रेम चंद
 - 3. शशि थरूर
 - 4. सूर्यकान्त त्रिपाठी

Question ID : 264330155496
Option 1 ID : 264330609388
Option 2 ID : 264330609389
Option 3 ID : 264330609390
Option 4 ID : 264330609387
Status : Answered
Chosen Option : 1

Q.19 68वें फिल्मफेयर पुरस्कार 2023 में सर्वश्रेष्ठ पार्श्व गायक (पुरुष) का पुरस्कार (Best Playback Singer (Male) award) किसने जीता?

- Ans
- 1. अरिजीत सिंह
 - 2. शान
 - 3. अमित मिश्रा
 - 4. मोहित चौहान

Question ID : 264330155516
Option 1 ID : 264330609468
Option 2 ID : 264330609469
Option 3 ID : 264330609470
Option 4 ID : 264330609467
Status : Not Answered
Chosen Option : --

Q.20 निम्नलिखित में से किस राज्य ने राज्य में कम से कम 2,00,000 नए रोजगार के अवसर पैदा करने के उद्देश्य से एक समर्पित सेमीकंडक्टर नीति 2022-27 पेश की है?

- Ans
- 1. गुजरात
 - 2. आंध्र प्रदेश
 - 3. महाराष्ट्र
 - 4. केरल

Question ID : 264330161409
Option 1 ID : 264330632964
Option 2 ID : 264330632965
Option 3 ID : 264330632963
Option 4 ID : 264330632966
Status : Not Answered
Chosen Option : --

Q.21 बचत खाते का उद्देश्य क्या है?

- Ans 1. जमा पर ब्याज अर्जित करना
 2. बिलों का भुगतान ऑनलाइन करना
 3. दैनिक लेन-देन करना
 4. बंधक ऋण प्राप्त करना

Question ID : 264330157301

Option 1 ID : 264330616568

Option 2 ID : 264330616570

Option 3 ID : 264330616567

Option 4 ID : 264330616569

Status : Answered

Chosen Option : 1

Q.22 निम्नलिखित में से कौन एक प्रसिद्ध कथक नर्तक/नर्तकी हैं जो 'पंडित बिरजू महाराज' के शिष्य/शिष्या और भारतीय लेखा परीक्षा और लेखा सेवाओं (Indian Audit and Accounts Services) में एक अधिकारी के रूप में भी काम कर चुके हैं/चुकी हैं?

- Ans 1. शोवना नारायण
 2. पद्मा सुब्रह्मण्यम
 3. सोनल मानसिंह
 4. गुरु बिपिन सिंह

Question ID : 264330159063

Option 1 ID : 264330623612

Option 2 ID : 264330623614

Option 3 ID : 264330623613

Option 4 ID : 264330623611

Status : Answered

Chosen Option : 1

Q.23 भारत की निम्नलिखित प्रायद्वीपीय नदियों में से कौन-सी नदी पश्चिम की ओर बहने वाली नदी (west flowing river) है?

- Ans 1. नर्मदा
 2. कावेरी
 3. कृष्णा
 4. गोदावरी

Question ID : 264330161496

Option 1 ID : 264330633314

Option 2 ID : 264330633312

Option 3 ID : 264330633313

Option 4 ID : 264330633311

Status : Answered

Chosen Option : 1

Q.24 भारत के संविधान के कौन-से अनुच्छेद का संबंध संघ एवं राज्य क्षेत्र (Union and its territory) से है?

- Ans
- 1. अनुच्छेद 1-4
 - 2. अनुच्छेद 36-51
 - 3. अनुच्छेद 12-35
 - 4. अनुच्छेद 5-11

Question ID : 264330159894
Option 1 ID : 264330626923
Option 2 ID : 264330626926
Option 3 ID : 264330626925
Option 4 ID : 264330626924
Status : Answered
Chosen Option : 4

Q.25 भारत की जनगणना 2011 के अनुसार, महिला साक्षरता दर _____ दर्ज की गई थी।

- Ans
- 1. 75.35%
 - 2. 55.84%
 - 3. 70.24%
 - 4. 65.46%

Question ID : 264330161557
Option 1 ID : 264330633557
Option 2 ID : 264330633555
Option 3 ID : 264330633556
Option 4 ID : 264330633558
Status : Answered
Chosen Option : 4

Section : English Language and Comprehension

Q.1 Select the most appropriate meaning of the underlined segment in the given sentence.
After her husband passed away, Jane had to learn to bite the bullet and take care of the household on her own.

- Ans
- 1. Create a difficult situation
 - 2. Run away from a difficult situation
 - 3. Criticise someone harshly
 - 4. Accept a difficult situation bravely

Question ID : 264330152922
Option 1 ID : 264330599269
Option 2 ID : 264330599267
Option 3 ID : 264330599270
Option 4 ID : 264330599268
Status : Answered
Chosen Option : 4

Q.2 Select the most appropriate word to fill in the blank.
Ministry of education has announced that students can _____ the Board Examinations twice.

- Ans
- 1. give
 - 2. take
 - 3. get
 - 4. participate

Question ID : 264330153506
Option 1 ID : 264330601536
Option 2 ID : 264330601537
Option 3 ID : 264330601535
Option 4 ID : 264330601538
Status : Answered
Chosen Option : 1

Q.3 Select the option that can be used as a one-word substitute for the given phrase.
One who lends money to others at a very high rate of interest.

- Ans
- 1. Curator
 - 2. Numismatist
 - 3. Bankrupt
 - 4. Usurer

Question ID : 264330152674
Option 1 ID : 264330598301
Option 2 ID : 264330598300
Option 3 ID : 264330598302
Option 4 ID : 264330598299
Status : Answered
Chosen Option : 4

Q.4 Select the most appropriate option that can substitute the underlined segment in the given sentence.

I considered Geography as an easier subject.

- Ans
- 1. an easiest
 - 2. the easier
 - 3. the easy
 - 4. an easy

Question ID : 264330155423
Option 1 ID : 264330609102
Option 2 ID : 264330609101
Option 3 ID : 264330609100
Option 4 ID : 264330609099
Status : Answered
Chosen Option : 4

Q.5 Select the most appropriate meaning of the given idiom.
Pay an arm and a leg for something

- Ans
- 1. Be devoted to unwanted things
 - 2. Give a lot of love and care to someone
 - 3. Pay a lot of attention to an incident
 - 4. Pay a lot of money for something

Question ID : 264330153438
Option 1 ID : 264330601277
Option 2 ID : 264330601278
Option 3 ID : 264330601276
Option 4 ID : 264330601275
Status : Answered
Chosen Option : 4

Q.6 Parts of the following sentence have been underlined and given as options. Select the option that contains an error.
What most off us want most is to move forward.

- Ans
- 1. move forward
 - 2. want most
 - 3. most off
 - 4. is to

Question ID : 264330153209
Option 1 ID : 264330600398
Option 2 ID : 264330600396
Option 3 ID : 264330600395
Option 4 ID : 264330600397
Status : Answered
Chosen Option : 3

Q.7 Select the INCORRECTLY spelt word in the given sentence.
The handloom shop at the Ring Road has many kinds of bags, such as paper, leather, cloth and canvass.

- Ans
- 1. Paper
 - 2. Cloth
 - 3. Leather
 - 4. Cannvas

Question ID : 264330153302
Option 1 ID : 264330600763
Option 2 ID : 264330600765
Option 3 ID : 264330600764
Option 4 ID : 264330600766
Status : Answered
Chosen Option : 4

Q.8 Select the most appropriate meaning of the underlined idiom in the given sentence.

A man of character, he stuck to his guns even in the most difficult situations.

- Ans 1. To do things that would please people
 2. To stand firm against all difficulties and challenges
 3. To behave disrespectfully
 4. To find a treasure

Question ID : 264330152880
Option 1 ID : 264330599113
Option 2 ID : 264330599114
Option 3 ID : 264330599111
Option 4 ID : 264330599112
Status : Answered
Chosen Option : 2

Q.9 The following sentence has been divided into four parts. Identify the part that contains an error.

(A) Taylor, Richard, and / (B) Francis plays for / (C) the state / (D) basketball team.

- Ans 1. D
 2. C
 3. B
 4. A

Question ID : 264330152616
Option 1 ID : 264330598067
Option 2 ID : 264330598068
Option 3 ID : 264330598069
Option 4 ID : 264330598070
Status : Answered
Chosen Option : 3

Q.10 Select the INCORRECTLY spelt word.

- Ans 1. Grammar
 2. Familiar
 3. Aweful
 4. Pleasant

Question ID : 264330152828
Option 1 ID : 264330598905
Option 2 ID : 264330598903
Option 3 ID : 264330598904
Option 4 ID : 264330598906
Status : Answered
Chosen Option : 3

Q.11 Parts of the following sentence have been given as options. Select the option that contains an error.
The platinum is a precious metal.

- Ans
- 1. a
 - 2. is
 - 3. precious metal
 - 4. The platinum

Question ID : 264330155201
Option 1 ID : 264330608265
Option 2 ID : 264330608264
Option 3 ID : 264330608266
Option 4 ID : 264330608263
Status : Answered
Chosen Option : 4

Q.12 Select the most appropriate option to fill in the blank.
Augmented Reality (AR) continues to develop and become more _____ among a wide range of applications.

- Ans
- 1. amicable
 - 2. pervasive
 - 3. idealistic
 - 4. rare

Question ID : 264330151905
Option 1 ID : 264330595237
Option 2 ID : 264330595236
Option 3 ID : 264330595238
Option 4 ID : 264330595235
Status : Answered
Chosen Option : 1

Q.13 Select the most appropriate synonym of the given word.
Trivial

- Ans
- 1. Minor
 - 2. Fatal
 - 3. Decisive
 - 4. Formal

Question ID : 264330152683
Option 1 ID : 264330598338
Option 2 ID : 264330598335
Option 3 ID : 264330598337
Option 4 ID : 264330598336
Status : Answered
Chosen Option : 1

Q.14 The following sentence has been divided into parts. One of them may contain an error. Select the part that contains the error from the given options. If you don't find any error, mark 'No error' as your answer.
As they driven through the dark, twisting lane / down which they had walked earlier, Lucius heard / the whistling of the night air in his ears.

- Ans
- 1. down which they had walked earlier, Lucius heard
 - 2. No error
 - 3. the whistling of the night air in his ears.
 - 4. As they driven through the dark, twisting lane

Question ID : 264330153212
Option 1 ID : 264330600409
Option 2 ID : 264330600410
Option 3 ID : 264330600407
Option 4 ID : 264330600408
Status : Answered
Chosen Option : 4

Q.15 Select the most appropriate option to fill in the blank.
All praised him when he soared in the business world, but the same people _____ him when he failed in business.

- Ans
- 1. supported
 - 2. dramatised
 - 3. nourished
 - 4. criticised

Question ID : 264330153576
Option 1 ID : 264330601802
Option 2 ID : 264330601801
Option 3 ID : 264330601799
Option 4 ID : 264330601800
Status : Answered
Chosen Option : 4

Q.16 Select the most appropriate idiom to fill in the blank.
Please tell me about the meeting _____.

- Ans
- 1. in a nutshell
 - 2. in a huff
 - 3. in a stew
 - 4. in a spin

Question ID : 264330152597
Option 1 ID : 264330597992
Option 2 ID : 264330597994
Option 3 ID : 264330597993
Option 4 ID : 264330597991
Status : Not Answered
Chosen Option : --

Q.17 Select the most appropriate ANTONYM of the given word.
Authentic

- Ans 1. False
 2. Wise
 3. Moderate
 4. Actual

Question ID : 264330152675
Option 1 ID : 264330598304
Option 2 ID : 264330598305
Option 3 ID : 264330598306
Option 4 ID : 264330598303
Status : Answered
Chosen Option : 1

Q.18 Select the INCORRECTLY spelt word.

- Ans 1. Territory
 2. Excellence
 3. Acknowlege
 4. Business

Question ID : 264330152688
Option 1 ID : 264330598358
Option 2 ID : 264330598357
Option 3 ID : 264330598356
Option 4 ID : 264330598355
Status : Answered
Chosen Option : 3

Q.19 Select the most appropriate option to fill in the blank.
A/An _____ fellow cannot become an ideal teacher.

- Ans 1. idle
 2. honest
 3. bright
 4. intelligent

Question ID : 264330153355
Option 1 ID : 264330600971
Option 2 ID : 264330600973
Option 3 ID : 264330600974
Option 4 ID : 264330600972
Status : Answered
Chosen Option : 1

Q.20 Select the word which means the same as the group of words given.
That which can't be read.

- Ans 1. Incurable
 2. Illegible
 3. Irrelevant
 4. Inaccessible

Question ID : 264330152570
Option 1 ID : 264330597884
Option 2 ID : 264330597885
Option 3 ID : 264330597886
Option 4 ID : 264330597883
Status : Answered
Chosen Option : 2

Comprehension:

In the following passage some words have been deleted. Read the passage carefully and select the most appropriate option to fill in each blank.

The most common hazard in forests is forest fire. Forest fires are as old as the forests themselves. They pose a 1. _____ not only to the forest wealth but also to the entire regime to fauna and flora seriously disturbing the biodiversity and the ecology and environment of a region. During summer, when there is no rain for months, the forests 2. _____ littered with dry senescent leaves and twinges, which could burst into flames ignited by the slightest spark. The Himalayan forests, particularly, Garhwal Himalayas have been burning 3. _____ during the last few summers, with colossal loss of vegetation cover of that region. The youngest mountain ranges of the Himalayas are the most 4. _____ stretches of the world susceptible to forest fires. The forests of the Western are more 5. _____ vulnerable to forest fires as compared to those in the Eastern Himalayas. This is because forests of the Eastern Himalayas grow in high rain density.

SubQuestion No : 21

Q.21 Select the most appropriate option to fill in blank no.1.

- Ans
- 1. mercy
 - 2. failure
 - 3. trend
 - 4. threat

Question ID : 264330151933

Option 1 ID : 264330595344

Option 2 ID : 264330595343

Option 3 ID : 264330595346

Option 4 ID : 264330595345

Status : Answered

Chosen Option : 4

Comprehension:

In the following passage some words have been deleted. Read the passage carefully and select the most appropriate option to fill in each blank.

The most common hazard in forests is forest fire. Forest fires are as old as the forests themselves. They pose a 1. _____ not only to the forest wealth but also to the entire regime to fauna and flora seriously disturbing the biodiversity and the ecology and environment of a region. During summer, when there is no rain for months, the forests 2. _____ littered with dry senescent leaves and twinges, which could burst into flames ignited by the slightest spark. The Himalayan forests, particularly, Garhwal Himalayas have been burning 3. _____ during the last few summers, with colossal loss of vegetation cover of that region. The youngest mountain ranges of the Himalayas are the most 4. _____ stretches of the world susceptible to forest fires. The forests of the Western are more 5. _____ vulnerable to forest fires as compared to those in the Eastern Himalayas. This is because forests of the Eastern Himalayas grow in high rain density.

SubQuestion No : 22

Q.22 Select the most appropriate option to fill in blank no.2.

- Ans
- 1. become
 - 2. build
 - 3. keep
 - 4. drive

Question ID : 264330151934

Option 1 ID : 264330595348

Option 2 ID : 264330595350

Option 3 ID : 264330595349

Option 4 ID : 264330595347

Status : Answered

Chosen Option : 1

Comprehension:

In the following passage some words have been deleted. Read the passage carefully and select the most appropriate option to fill in each blank.

The most common hazard in forests is forest fire. Forest fires are as old as the forests themselves. They pose a 1. _____ not only to the forest wealth but also to the entire regime to fauna and flora seriously disturbing the biodiversity and the ecology and environment of a region. During summer, when there is no rain for months, the forests 2. _____ littered with dry senescent leaves and twinges, which could burst into flames ignited by the slightest spark. The Himalayan forests, particularly, Garhwal Himalayas have been burning 3. _____ during the last few summers, with colossal loss of vegetation cover of that region. The youngest mountain ranges of the Himalayas are the most 4. _____ stretches of the world susceptible to forest fires. The forests of the Western are more 5. _____ vulnerable to forest fires as compared to those in the Eastern Himalayas. This is because forests of the Eastern Himalayas grow in high rain density.

SubQuestion No : 23

Q.23 Select the most appropriate option to fill in blank no.3.

- Ans
- 1. badly
 - 2. enough
 - 3. regularly
 - 4. rarely

Question ID : 264330151935

Option 1 ID : 264330595353

Option 2 ID : 264330595352

Option 3 ID : 264330595351

Option 4 ID : 264330595354

Status : Answered

Chosen Option : 3

Comprehension:

In the following passage some words have been deleted. Read the passage carefully and select the most appropriate option to fill in each blank.

The most common hazard in forests is forest fire. Forest fires are as old as the forests themselves. They pose a 1. _____ not only to the forest wealth but also to the entire regime to fauna and flora seriously disturbing the biodiversity and the ecology and environment of a region. During summer, when there is no rain for months, the forests 2. _____ littered with dry senescent leaves and twinges, which could burst into flames ignited by the slightest spark. The Himalayan forests, particularly, Garhwal Himalayas have been burning 3. _____ during the last few summers, with colossal loss of vegetation cover of that region. The youngest mountain ranges of the Himalayas are the most 4. _____ stretches of the world susceptible to forest fires. The forests of the Western are more 5. _____ vulnerable to forest fires as compared to those in the Eastern Himalayas. This is because forests of the Eastern Himalayas grow in high rain density.

SubQuestion No : 24

Q.24 Select the most appropriate option to fill in blank no.4.

- Ans
- 1. mysterious
 - 2. vulnerable
 - 3. outrageous
 - 4. greasy

Question ID : 264330151936

Option 1 ID : 264330595355

Option 2 ID : 264330595358

Option 3 ID : 264330595356

Option 4 ID : 264330595357

Status : Answered

Chosen Option : 2

Comprehension:

In the following passage some words have been deleted. Read the passage carefully and select the most appropriate option to fill in each blank.

The most common hazard in forests is forest fire. Forest fires are as old as the forests themselves. They pose a 1. _____ not only to the forest wealth but also to the entire regime to fauna and flora seriously disturbing the biodiversity and the ecology and environment of a region. During summer, when there is no rain for months, the forests 2. _____ littered with dry senescent leaves and twinges, which could burst into flames ignited by the slightest spark. The Himalayan forests, particularly, Garhwal Himalayas have been burning 3. _____ during the last few summers, with colossal loss of vegetation cover of that region. The youngest mountain ranges of the Himalayas are the most 4. _____ stretches of the world susceptible to forest fires. The forests of the Western are more 5. _____ vulnerable to forest fires as compared to those in the Eastern Himalayas. This is because forests of the Eastern Himalayas grow in high rain density.

SubQuestion No : 25

Q.25 Select the most appropriate option to fill in blank no.5.

- Ans**
- 1. barely
 - 2. closely
 - 3. deeply
 - 4. frequently

Question ID : 264330151937

Option 1 ID : 264330595359

Option 2 ID : 264330595362

Option 3 ID : 264330595361

Option 4 ID : 264330595360

Status : Answered

Chosen Option : 4

KD Job Updates

Multi Tasking Non Technical Staff and Havaladar CBIC and CBN Examination 2023

Roll Number	KD Job Updates
Candidate Name	KD Job Updates
Venue Name	Yagyavalkya Institute of Technology
Exam Date	11/09/2023
Exam Time	12:30 PM - 2:30 PM
Subject	MTS Non Tech Havaladar CBIC and CBN Examination 2023

Section : Numerical and Mathematical Ability

Q.1 एक दूध विक्रेता दूध में पानी मिलाता है और मिश्रण को क्रय मूल्य पर बेचकर 16 $\frac{1}{4}$ % का लाभ कमाता है। मिश्रण में दूध और पानी का अनुपात ज्ञात कीजिए।

- Ans
- 1. 13 : 80
 - 2. 80 : 13
 - 3. 40 : 7
 - 4. 7 : 40

Question ID : 264330153836
Option 1 ID : 264330602809
Option 2 ID : 264330602808
Option 3 ID : 264330602807
Option 4 ID : 264330602810
Status : Answered
Chosen Option : 3

Q.2 15 पार्सल का औसत भार 20 kg है। एक और नए पार्सल को जोड़ने से औसत भार में 250 ग्राम की वृद्धि हो जाती है। नए पार्सल का भार कितना है?

- Ans
- 1. 24 kg
 - 2. 28 kg
 - 3. 22 kg
 - 4. 26 kg

Question ID : 264330156291
Option 1 ID : 264330612564
Option 2 ID : 264330612563
Option 3 ID : 264330612565
Option 4 ID : 264330612566
Status : Answered
Chosen Option : 1

Q.3 एक योजना में ₹12,000 का निवेश करने पर, R को बदले में ₹15,500 वापस मिलते हैं। उसका लाभ प्रतिशत क्या है?

- Ans 1. 27.19%
 2. 29.17%
 3. 17.92%
 4. 19.17%

Question ID : 264330160010
Option 1 ID : 264330627388
Option 2 ID : 264330627387
Option 3 ID : 264330627390
Option 4 ID : 264330627389
Status : Answered
Chosen Option : 2

Q.4 एक बिस्तर के मूल्य में पहले 32% की वृद्धि की जाती है और बाद में बिक्री में कमी के कारण इसके मूल्य में 20% की कमी की जाती है। बिस्तर के अंतिम मूल्य में निवल प्रतिशत परिवर्तन ज्ञात कीजिए।

- Ans 1. 5.6%
 2. 4.9%
 3. 6.2%
 4. 7.5%

Question ID : 264330156179
Option 1 ID : 264330612115
Option 2 ID : 264330612118
Option 3 ID : 264330612116
Option 4 ID : 264330612117
Status : Answered
Chosen Option : 1

Q.5 यदि $10(8 + 4R) \div (12 \times 5) - 5 \times 2^3 = 6$, तो R का मान क्या है?

- Ans 1. 67
 2. 68
 3. 86
 4. 76

Question ID : 264330153756
Option 1 ID : 264330602490
Option 2 ID : 264330602487
Option 3 ID : 264330602488
Option 4 ID : 264330602489
Status : Answered
Chosen Option : 1

Q.6 यदि ब्याज वार्षिक रूप से संयोजित होता है, तो ₹20,500 पर 2 वर्ष के लिए 10% वार्षिक दर से चक्रवृद्धि ब्याज (₹ में) कितना होगा?

- Ans
- 1. 5,403
 - 2. 4,305
 - 3. 4,350
 - 4. 4,530

Question ID : 264330153773
Option 1 ID : 264330602556
Option 2 ID : 264330602558
Option 3 ID : 264330602555
Option 4 ID : 264330602557
Status : Answered
Chosen Option : 2

Q.7 एक टंकी को 1 घंटे 40 मिनट में भरने के लिए 5 पाइपों की आवश्यकता होती है। यदि समान प्रकार के 4 पाइपों का उपयोग किया जाए तो उसी टंकी को भरने में कितना समय (मिनटों में) लगेगा?

- Ans
- 1. 150
 - 2. 140
 - 3. 115
 - 4. 125

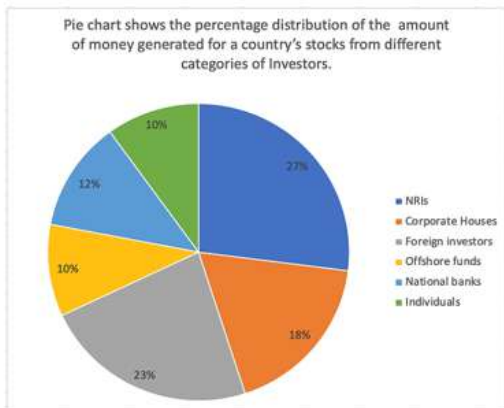
Question ID : 264330153772
Option 1 ID : 264330602554
Option 2 ID : 264330602551
Option 3 ID : 264330602552
Option 4 ID : 264330602553
Status : Answered
Chosen Option : 4

Q.8 यदि एक घन के आकार के डिब्बे के सबसे लंबे विकर्ण की लंबाई $\sqrt{300}$ cm है, तो इसका आयतन ज्ञात कीजिए।

- Ans
- 1. 1000 cm^3
 - 2. 400 cm^3
 - 3. 10000 cm^3
 - 4. 100 cm^3

Question ID : 264330156084
Option 1 ID : 264330611735
Option 2 ID : 264330611738
Option 3 ID : 264330611737
Option 4 ID : 264330611736
Status : Answered
Chosen Option : 1

Q.9 निम्नलिखित वृत्त आलेख में अलग-अलग श्रेणियों के निवेशकों से देश के शेयरों के लिए उत्पन्न होने वाली धन की मात्रा को दर्शाया गया है।



संदर्भ: Pie chart shows the percentage distribution of the amount of money generated for a country's stocks from different categories of Investors - वृत्त आलेख में अलग-अलग श्रेणियों के निवेशकों से देश के शेयरों के लिए उत्पन्न होने वाली धन की मात्रा के प्रतिशत वितरण को दर्शाया गया है, NRIs - एनआरआई, Corporate Houses - कॉर्पोरेट घराने, Foreign investors - विदेशी निवेशक, Offshore funds - ऑफशोर फंड्स, National banks - राष्ट्रीय बैंक, Individuals - व्यक्तिगत

यदि NRIs, विदेशी निवेशकों और कॉर्पोरेट घरानों के अलावा कुल निवेश ₹456 करोड़ है, तो राष्ट्रीय बैंकों और ऑफशोर फंड्स द्वारा निवेश (करोड़ ₹ में) _____ होगा।

- Ans
- ✗ 1. 231.5
 - ✗ 2. 331.5
 - ✗ 3. 213.5
 - ✓ 4. 313.5

Question ID : 264330153783

Option 1 ID : 264330602597

Option 2 ID : 264330602595

Option 3 ID : 264330602598

Option 4 ID : 264330602596

Status : Answered

Chosen Option : 3

Q.10 साधारण ब्याज दर पर तीन वर्षों में ₹8,000 की धनराशि ₹9,800 हो जाती है। यदि ब्याज की दर स्वयं की दोगुनी हो जाए तो चार वर्ष में उसी मूलधन की धनराशि क्या होगी?

- Ans
- ✓ 1. ₹12,800
 - ✗ 2. ₹10,800
 - ✗ 3. ₹11,800
 - ✗ 4. ₹13,500

Question ID : 264330158214

Option 1 ID : 264330620216

Option 2 ID : 264330620217

Option 3 ID : 264330620215

Option 4 ID : 264330620218

Status : Answered

Chosen Option : 1

Q.11 A और B अलग-अलग काम करते हुए एक काम को क्रमशः 16 दिनों और 28 दिनों में पूरा कर सकते हैं। यदि वे बारी-बारी से एक दिन छोड़कर काम करते हैं और B पहले दिन काम शुरू करता है, तो काम कितने दिनों में पूरा होगा?

- Ans**
- 1. $21\frac{1}{2}$
 - 2. $20\frac{1}{2}$
 - 3. $19\frac{1}{2}$
 - 4. $18\frac{1}{2}$

Question ID : 264330155758
Option 1 ID : 264330610435
Option 2 ID : 264330610436
Option 3 ID : 264330610437
Option 4 ID : 264330610438
Status : Answered
Chosen Option : 2

Q.12 23 प्रेक्षणों का माध्य 36 है। यदि पहले 12 प्रेक्षणों का माध्य 32 है और अंतिम 12 प्रेक्षणों का माध्य 39 है, तो 12वाँ प्रेक्षण ज्ञात कीजिए।

- Ans**
- 1. 25
 - 2. 23
 - 3. 26
 - 4. 24

Question ID : 264330156096
Option 1 ID : 264330611784
Option 2 ID : 264330611783
Option 3 ID : 264330611785
Option 4 ID : 264330611786
Status : Answered
Chosen Option : 4

Q.13 संजय एक ही मापने वाले टेप का उपयोग करके 7000 mm, 3850 mm और 12950 mm की लंबाई सटीक रूप से मापना चाहता है। मापने वाले टेप की अधिकतम संभव लंबाई (cm में) कितनी होगी?

- Ans**
- 1. 40
 - 2. 35
 - 3. 30
 - 4. 45

Question ID : 264330155682
Option 1 ID : 264330610133
Option 2 ID : 264330610132
Option 3 ID : 264330610131
Option 4 ID : 264330610134
Status : Answered
Chosen Option : 2

Q.14 एक आदमी 36 घंटे में नाव चलाकर 72 km की दूरी पर जाता है और वापस आता है। उसे पता चलता है कि वह नाव चलाकर धारा की दिशा में 12 km की दूरी उतने ही समय में तय कर सकता है, जितने समय में वह धारा के विपरीत 4 km की दूरी तय कर सकता है। धारा की चाल (km/h में, दशमलव के 2 स्थानों तक सन्निकटित) _____ है।

- Ans
- 1. 3.75
 - 2. 2.33
 - 3. 2.45
 - 4. 2.67

Question ID : 264330153777
Option 1 ID : 264330602573
Option 2 ID : 264330602574
Option 3 ID : 264330602572
Option 4 ID : 264330602571
Status : Not Answered
Chosen Option : --

Q.15 एक शंकु के आधार का व्यास 4 m और ऊँचाई 1.5 m है। शंकु की तिर्यक ऊँचाई (m में) ज्ञात कीजिए।

- Ans
- 1. 2.1
 - 2. 2.7
 - 3. 2.5
 - 4. 2.3

Question ID : 264330156244
Option 1 ID : 264330612375
Option 2 ID : 264330612378
Option 3 ID : 264330612377
Option 4 ID : 264330612376
Status : Answered
Chosen Option : 3

Q.16 नेहा 8 km/h की चाल से चलती है और एक पुल को 27 मिनट में पार करती है। मीटर में पुल की लंबाई कितनी है?

- Ans
- 1. 4850
 - 2. 3000
 - 3. 2400
 - 4. 3600

Question ID : 264330156112
Option 1 ID : 264330611850
Option 2 ID : 264330611847
Option 3 ID : 264330611849
Option 4 ID : 264330611848
Status : Answered
Chosen Option : 4

Q.17 A, B और C एक काम को क्रमशः 10, 15 और 25 दिनों में पूरा कर सकते हैं। A, B और C यदि साथ मिलकर काम करते हैं तो उन्हें कितने दिन का समय लगेगा?

- Ans
- ✗ 1. $4\frac{27}{31}$ दिन
 - ✗ 2. $3\frac{11}{31}$ दिन
 - ✓ 3. $4\frac{26}{31}$ दिन
 - ✗ 4. $3\frac{16}{31}$ दिन

Question ID : 264330156531
Option 1 ID : 264330613514
Option 2 ID : 264330613512
Option 3 ID : 264330613511
Option 4 ID : 264330613513
Status : Answered
Chosen Option : 3

Q.18 रॉबिन ₹2,000 में एक पंखा खरीदता है और बाद में इसे 15% की हानि पर बेच देता है। उसने पंखे को किस मूल्य पर बेचा?

- Ans
- ✗ 1. ₹1,900
 - ✗ 2. ₹1,800
 - ✓ 3. ₹1,700
 - ✗ 4. ₹2,100

Question ID : 264330156103
Option 1 ID : 264330611814
Option 2 ID : 264330611812
Option 3 ID : 264330611811
Option 4 ID : 264330611813
Status : Answered
Chosen Option : 3

Q.19 यदि $A : B = 3 : 4$ और $B : C = 6 : 5$, तो $A : B : C$ बराबर _____ होगा।

- Ans
- ✓ 1. 9 : 12 : 10
 - ✗ 2. 9 : 10 : 12
 - ✗ 3. 9 : 10 : 20
 - ✗ 4. 9 : 12 : 20

Question ID : 264330153872
Option 1 ID : 264330602954
Option 2 ID : 264330602953
Option 3 ID : 264330602952
Option 4 ID : 264330602951
Status : Answered
Chosen Option : 1

Q.20 एक व्यक्ति दी गई तालिका के अनुसार प्रतिदिन जॉगिंग करता है।

दिन	सोमवार	मंगलवार	बुधवार	गुरुवार	शुक्रवार	शनिवार	रविवार
जॉगिंग की दूरी (किमी में)	4.5	3.5	2.5	3.0	2.0	4.0	1.5

एक सप्ताह में व्यक्ति द्वारा जॉगिंग की गई माध्य दूरी कितनी है?

- Ans
- 1. 2.5
 - 2. 3
 - 3. 3.5
 - 4. 2

Question ID : 264330154097
Option 1 ID : 264330603854
Option 2 ID : 264330603853
Option 3 ID : 264330603851
Option 4 ID : 264330603852
Status : Answered
Chosen Option : 2

Section : Reasoning Ability and Problem Solving

Q.1 उस सही विकल्प को चुनिए, जिसे दी गई श्रृंखला के रिक्त स्थानों में इसी क्रम में रखने पर श्रृंखला तार्किक रूप से पूरी हो जाएगी।

G_KPN_RPUXY_BE_PI_MP

- Ans
- 1. QFDPA
 - 2. JQPFL
 - 3. JPFLC
 - 4. QJLDP

Question ID : 264330154728
Option 1 ID : 264330606378
Option 2 ID : 264330606375
Option 3 ID : 264330606377
Option 4 ID : 264330606376
Status : Answered
Chosen Option : 2

Q.2 अक्षरों के उस संयोजन को चुनिए जिसे दी गई श्रृंखला के रिक्त स्थानों में क्रमिक रूप से रखने पर श्रृंखला पूरी हो जाएगी।

_TU_T_TT__TU

- Ans
- 1. UTUTU
 - 2. TUTUU
 - 3. UUTUU
 - 4. TTUUT

Question ID : 264330151647
Option 1 ID : 264330594216
Option 2 ID : 264330594217
Option 3 ID : 264330594215
Option 4 ID : 264330594218
Status : Answered
Chosen Option : 4

Q.3 यदि '+' और '-' को आपस में बदल दिया जाए और 'x' और '÷' को आपस में बदल दिया जाए तो निम्नलिखित समीकरण में '?' के स्थान पर क्या आएगा?
 $10 - 6 - 5 \times 5 \div 3 = ?$

- Ans
- 1. 7
 - 2. 8
 - 3. 4
 - 4. 5

Question ID : 264330154664
Option 1 ID : 264330606121
Option 2 ID : 264330606122
Option 3 ID : 264330606119
Option 4 ID : 264330606120
Status : Answered
Chosen Option : 1

Q.4 उस समुच्चय को चुनिए जिसमें संख्याएँ ठीक उसी प्रकार संबंधित हैं जिस प्रकार निम्नलिखित समुच्चयों की संख्याएँ संबंधित हैं।

(ध्यान दें: संख्याओं को उनके घटक अंकों में अलग-अलग किए बिना, पूर्ण संख्याओं पर संक्रियाएँ की जानी चाहिए। उदा. 13 - संख्या 13 पर संक्रियाएँ जैसे 13 को जोड़ना/घटाना/गुणा करना आदि किया जा सकता है। 13 को 1 और 3 में अलग-अलग करने की और फिर 1 और 3 पर गणितीय संक्रियाएँ करने की अनुमति नहीं है।)

(2, 8, 32)

(5, 7, 70)

- Ans
- 1. 4, 12, 96
 - 2. 3, 5, 15
 - 3. 7, 12, 84
 - 4. 6, 11, 56

Question ID : 264330151616
Option 1 ID : 264330594092
Option 2 ID : 264330594091
Option 3 ID : 264330594094
Option 4 ID : 264330594093
Status : Answered
Chosen Option : 1

Q.5 EH 11, CF 16 से एक निश्चित प्रकार से संबंधित है। उसी प्रकार, JV 15, HT 20 से संबंधित है। समान तर्क का अनुसरण करते हुए FN 13 निम्नलिखित में से किससे संबंधित है?

- Ans
- 1. DL 18
 - 2. CL 18
 - 3. DK 19
 - 4. EM 17

Question ID : 264330151659
Option 1 ID : 264330594266
Option 2 ID : 264330594263
Option 3 ID : 264330594264
Option 4 ID : 264330594265
Status : Answered
Chosen Option : 1

Q.6 शगुन, प्रज्ञा, यति, लवी, सावी और फ्रूटी एक वृत्ताकार मेज के चारों ओर केंद्र की ओर मुख करके बैठे हैं। शगुन, प्रज्ञा के बाईं ओर से दूसरे स्थान पर बैठी है। यति, शगुन के बाईं ओर से दूसरे स्थान पर बैठी है। लवी, यति के बाईं ओर से तीसरे स्थान पर बैठी है। सावी, लवी के बाईं ओर से दूसरे स्थान पर बैठी है। शगुन के बाईं ओर से तीसरे स्थान पर कौन बैठी है?

- Ans**
- 1. प्रज्ञा
 - 2. सावी
 - 3. फ्रूटी
 - 4. लवी

Question ID : 264330155653
Option 1 ID : 264330610017
Option 2 ID : 264330610018
Option 3 ID : 264330610015
Option 4 ID : 264330610016
Status : Answered
Chosen Option : 3

Q.7 दी गई श्रृंखला में प्रश्न चिन्ह '?' के स्थान पर क्या आना चाहिए?

14 47 146 443 1334 ?

- Ans**
- 1. 4078
 - 2. 4001
 - 3. 4171
 - 4. 4007

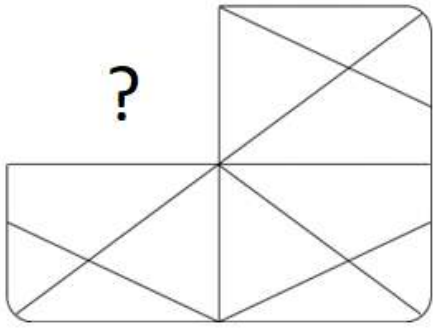
Question ID : 264330151489
Option 1 ID : 264330593585
Option 2 ID : 264330593583
Option 3 ID : 264330593586
Option 4 ID : 264330593584
Status : Answered
Chosen Option : 4

Q.8 यदि '+' और '-' को आपस में बदल दिया जाए तथा 'x' और '÷' को आपस में बदल दिया जाए तो निम्नलिखित समीकरण में (?) के स्थान पर क्या आएगा?
 $216 \times 36 - 6 \div 17 + 39 = ?$

- Ans**
- 1. 89
 - 2. 69
 - 3. 59
 - 4. 79

Question ID : 264330155678
Option 1 ID : 264330610115
Option 2 ID : 264330610117
Option 3 ID : 264330610118
Option 4 ID : 264330610116
Status : Answered
Chosen Option : 2

Q.9 पैटर्न को पूरा करने वाली आकृति को पहचानिए (घूर्णन की अनुमति नहीं है)।



Ans

- 1.
- 2.
- 3.
- 4.

Question ID : 264330154521

Option 1 ID : 264330605549

Option 2 ID : 264330605548

Option 3 ID : 264330605547

Option 4 ID : 264330605550

Status : Answered

Chosen Option : 4

Q.10 दी गई श्रृंखला में प्रश्न चिन्ह '?' के स्थान पर क्या आना चाहिए?

7 33 137 553 2217 ?

- Ans
- 1. 8931
 - 2. 8827
 - 3. 8723
 - 4. 8873

Question ID : 264330151457
Option 1 ID : 264330593458
Option 2 ID : 264330593456
Option 3 ID : 264330593455
Option 4 ID : 264330593457
Status : Answered
Chosen Option : 4

Q.11 एक निश्चित कूट भाषा में, 'ARC' को '1-18-3' लिखा जाता है और 'BOY' को '2-15-25' लिखा जाता है। उस कूट भाषा में 'FAD' को कैसे लिखा जाएगा?

- Ans
- 1. 6-2-4
 - 2. 5-2-6
 - 3. 7-2-5
 - 4. 6-1-4

Question ID : 264330155817
Option 1 ID : 264330610674
Option 2 ID : 264330610671
Option 3 ID : 264330610673
Option 4 ID : 264330610672
Status : Answered
Chosen Option : 4

Q.12 अंग्रेजी वर्णमाला क्रम के आधार पर दी गई श्रृंखला में प्रश्न चिह्न (?) के स्थान पर क्या आना चाहिए?

HVP, JZO, LDN, NHM, ?

- Ans
- 1. MLM
 - 2. OLL
 - 3. NLN
 - 4. PLL

Question ID : 264330155799
Option 1 ID : 264330610599
Option 2 ID : 264330610602
Option 3 ID : 264330610601
Option 4 ID : 264330610600
Status : Answered
Chosen Option : 4

Q.13 यदि 15 फरवरी 2010 को सोमवार है, तो 7 जुलाई 2011 को सप्ताह का कौन-सा दिन होगा?

- Ans
- ✓ 1. गुरुवार
 - ✗ 2. शनिवार
 - ✗ 3. बुधवार
 - ✗ 4. सोमवार

Question ID : 264330154333
Option 1 ID : 264330604795
Option 2 ID : 264330604797
Option 3 ID : 264330604798
Option 4 ID : 264330604796
Status : Answered
Chosen Option : 1

Q.14 नीचे दिए गए कथनों और निष्कर्षों को ध्यानपूर्वक पढ़िए। आपको मानना है कि दिए गए कथन सत्य हैं चाहे वे समान्यतः ज्ञात तथ्यों से अलग प्रतीत होते हों। आपको निश्चय करना है कि कौन-सा कौन-से निष्कर्ष तार्किक रूप से दिए गए कथनों के अनुसार है।

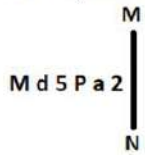
कथन: सभी कुत्ते, बिल्लियाँ हैं। कुछ बिल्लियाँ, मुर्गियाँ हैं। सभी मुर्गियाँ, गुलाबी हैं।

निष्कर्ष I: कुछ कुत्ते, बिल्लियाँ हैं।
निष्कर्ष II: कुछ बिल्लियाँ, गुलाबी हैं।

- Ans
- ✓ 1. दोनों निष्कर्ष (I) और (II) कथनों के अनुसार हैं।
 - ✗ 2. केवल निष्कर्ष (I) कथनों के अनुसार है।
 - ✗ 3. न तो निष्कर्ष (I) और न ही (II) कथनों के अनुसार है।
 - ✗ 4. केवल निष्कर्ष (II) कथनों के अनुसार है।

Question ID : 264330155923
Option 1 ID : 264330611098
Option 2 ID : 264330611095
Option 3 ID : 264330611097
Option 4 ID : 264330611096
Status : Answered
Chosen Option : 1

Q.15 दी गई आकृति के उस सही दर्पण प्रतिबिंब को चुनिए, जो नीचे दर्शाए गए अनुसार दर्पण को MN पर रखने पर बनेगा।



- Ans
- ✗ 1. M d 5 P a 2
 - ✗ 2. M q 5 P a 2
 - ✓ 3. M q 5 P a 2
 - ✗ 4. a 2 5 P b M

Question ID : 264330151523
Option 1 ID : 264330593721
Option 2 ID : 264330593720
Option 3 ID : 264330593719
Option 4 ID : 264330593722
Status : Answered
Chosen Option : 3

Q.16 एक निश्चित कूट भाषा में, 'NEAR' को '4968' लिखा जाता है और 'REAP' को '9865' लिखा जाता है। उस कूट भाषा में 'P' को कैसे लिखा जाएगा?

- Ans
- 1. 6
 - 2. 8
 - 3. 9
 - 4. 5

Question ID : 264330155870

Option 1 ID : 264330610885

Option 2 ID : 264330610884

Option 3 ID : 264330610883

Option 4 ID : 264330610886

Status : Answered

Chosen Option : 4

Q.17 यदि निम्नलिखित आकृति श्रृंखला को जारी रखना हो तो कोन-सी आकृति प्रश्न चिन्ह (?) के स्थान पर आनी चाहिए?

S	4	S	=	
= X 4 A D S 4 V = X A S				?
D A X =	A X	V 4		

Ans

1.

S		
= 6 4		
X V		

2.

S		
A 4 =		
X V		

3.

S		
= 6 4		
A X		

4.

S		
= A 4		
X V		

Question ID : 264330154752

Option 1 ID : 264330606471

Option 2 ID : 264330606473

Option 3 ID : 264330606472

Option 4 ID : 264330606474

Status : Answered

Chosen Option : 3

Q.18 नीचे दिए गए कथनों और निष्कर्षों को ध्यानपूर्वक पढ़िए। आपको मानना है कि दिए गए कथन सत्य हैं चाहे वे समान्यतः ज्ञात तथ्यों से अलग प्रतीत होते हों। आपको निश्चय करना है कि कौन-सा/कौन-से निष्कर्ष तार्किक रूप से दिए गए कथनों के अनुसार है/हैं।

कथन: सभी जोकर, बोटलें हैं। कुछ बोटलें, स्टील हैं। सभी स्टील, चाबियां हैं।

निष्कर्ष I: कुछ जोकर, बोटलें हैं।

निष्कर्ष II: सभी स्टील, बोटलें हैं।

- Ans**
- 1. दोनों निष्कर्ष (I) और (II) कथनों के अनुसार हैं।
 - 2. केवल निष्कर्ष (I) कथनों के अनुसार है।
 - 3. केवल निष्कर्ष (II) कथनों के अनुसार है।
 - 4. न तो निष्कर्ष (I) और न ही (II) कथनों के अनुसार है।

Question ID : 264330155905

Option 1 ID : 264330611026

Option 2 ID : 264330611023

Option 3 ID : 264330611024

Option 4 ID : 264330611025

Status : Answered

Chosen Option : 2

Q.19 एक निश्चित तर्क के अनुसार 5, 24 से संबंधित है। समान तर्क के अनुसार, 9, 80 से संबंधित है। समान तर्क का अनुसरण करते हुए 14 निम्नलिखित में से किससे संबंधित है?

- Ans**
- 1. 198
 - 2. 195
 - 3. 197
 - 4. 196

Question ID : 264330151585

Option 1 ID : 264330593970

Option 2 ID : 264330593967

Option 3 ID : 264330593969

Option 4 ID : 264330593968

Status : Answered

Chosen Option : 2

Q.20 दी गई श्रृंखला में प्रश्न चिन्ह '?' के स्थान पर क्या आना चाहिए?

12 18 30 54 102 ?

- Ans**
- 1. 190
 - 2. 187
 - 3. 198
 - 4. 204

Question ID : 264330151452

Option 1 ID : 264330593436

Option 2 ID : 264330593435

Option 3 ID : 264330593437

Option 4 ID : 264330593438

Status : Answered

Chosen Option : 3

Q.1 भारत की जनगणना 2011 के अनुसार निम्नलिखित में से किस राज्य की जनसंख्या सबसे कम है?

- Ans
- 1. सिक्किम
 - 2. गोवा
 - 3. मणिपुर
 - 4. मिजोरम

Question ID : 264330160157
Option 1 ID : 264330627970
Option 2 ID : 264330627969
Option 3 ID : 264330627968
Option 4 ID : 264330627967
Status : Answered
Chosen Option : 1

Q.2 'द स्टोरी ऑफ़ माई एक्सपेरिमेंट्स विद ट्रुथ' (The Story of My Experiments with Truth)
_____ की आत्मकथा है।

- Ans
- 1. डॉ. राजेंद्र प्रसाद
 - 2. महात्मा गांधी
 - 3. जवाहर लाल नेहरू
 - 4. विवेकानंद

Question ID : 264330155489
Option 1 ID : 264330609362
Option 2 ID : 264330609359
Option 3 ID : 264330609360
Option 4 ID : 264330609361
Status : Answered
Chosen Option : 2

Q.3 1975 में रिलीज़ हुई प्रसिद्ध फिल्म 'शोले' के संगीत निर्देशक कौन थे?

- Ans
- 1. मदन मोहन
 - 2. जतिन-ललित
 - 3. आर.डी. बर्मन
 - 4. नदीम-श्रवण

Question ID : 264330155517
Option 1 ID : 264330609474
Option 2 ID : 264330609473
Option 3 ID : 264330609471
Option 4 ID : 264330609472
Status : Not Answered
Chosen Option : --

Q.4 चाओइट (Chaoite), बकमिन्स्टर फुलरीन (Buckminsterfullerene) और ग्राफीन (Graphene) किस तत्व से संबंधित हैं?

- Ans
- 1. ब्रोमीन
 - 2. सल्फर
 - 3. कार्बन
 - 4. आर्सेनिक

Question ID : 264330161059
Option 1 ID : 264330631570
Option 2 ID : 264330631568
Option 3 ID : 264330631567
Option 4 ID : 264330631569
Status : Answered
Chosen Option : 3

Q.5 शास्त्रीय नृत्य की तकनीक को लगभग 5^{वीं} शताब्दी ईसा पूर्व में _____ द्वारा कूटीकृत किया गया था।

- Ans
- 1. चाणक्य (Chanakya)
 - 2. भरत (Bharata)
 - 3. कल्हण (Kalhana)
 - 4. शूद्रक (Sudraka)

Question ID : 264330159046
Option 1 ID : 264330623544
Option 2 ID : 264330623545
Option 3 ID : 264330623546
Option 4 ID : 264330623543
Status : Answered
Chosen Option : 4

Q.6 किस राज्य ने अधिवक्ताओं (advocates) की सुरक्षा के लिए विधेयक पारित किया और ऐसा करने वाला पहला राज्य बन गया?

- Ans
- 1. हिमाचल प्रदेश
 - 2. हरियाणा
 - 3. राजस्थान
 - 4. पंजाब

Question ID : 264330158337
Option 1 ID : 264330620707
Option 2 ID : 264330620709
Option 3 ID : 264330620710
Option 4 ID : 264330620708
Status : Answered
Chosen Option : 3

Q.7 भारत के निम्नलिखित में से किस राज्य में जलोढ़ मृदा का सर्वाधिक विस्तार पाया जाता है?

- Ans
- 1. कर्नाटक
 - 2. तेलंगाना
 - 3. उत्तरप्रदेश
 - 4. महाराष्ट्र

Question ID : 264330161528
Option 1 ID : 264330633440
Option 2 ID : 264330633439
Option 3 ID : 264330633442
Option 4 ID : 264330633441
Status : Answered
Chosen Option : 3

Q.8 निम्नलिखित में से 'एनिमल फार्म (Animal Farm)' उपन्यास के लेखक कौन हैं?

- Ans
- 1. रोआल्ड डाल (Roald Dahl)
 - 2. चार्ल्स डिकेंस (Charles Dickens)
 - 3. जॉर्ज ऑरवेल (George Orwell)
 - 4. थॉमस हार्डी (Thomas Hardy)

Question ID : 264330161759
Option 1 ID : 264330634365
Option 2 ID : 264330634366
Option 3 ID : 264330634363
Option 4 ID : 264330634364
Status : Not Answered
Chosen Option : --

Q.9 तीसरे खेले इंडिया यूनिवर्सिटी गेम्स में किस विश्वविद्यालय ने प्रथम स्थान हासिल किया ?

- Ans
- 1. यूनिवर्सिटी ऑफ मद्रास
 - 2. यूनिवर्सिटी ऑफ मुंबई
 - 3. शिवाजी यूनिवर्सिटी
 - 4. पंजाब यूनिवर्सिटी

Question ID : 264330158230
Option 1 ID : 264330620281
Option 2 ID : 264330620282
Option 3 ID : 264330620280
Option 4 ID : 264330620279
Status : Answered
Chosen Option : 4

Q.10 किस भारतीय संगीतकार के नाम पर संयुक्त राज्य अमेरिका के मैसाचुसेट्स (Massachusetts) राज्य ने 1984 में 20 अप्रैल को उनके नाम पर एक दिन घोषित किया?

- Ans
- 1. अमजद अली खान
 - 2. अली अकबर खान
 - 3. बृज नारायण
 - 4. राजीव तारानाथ

Question ID : 264330161909
Option 1 ID : 264330634964
Option 2 ID : 264330634965
Option 3 ID : 264330634966
Option 4 ID : 264330634963
Status : Answered
Chosen Option : 1

Q.11 कौन-सी स्थिति हड्डियों में दर्द, हड्डियों के अच्चे से विकसित न होने और नरम, कमजोर हड्डियों का कारण बनती है जिससे हड्डियों में विकृति आ सकती है?

- Ans
- 1. सूखा रोग (Rickets)
 - 2. प्लीहाभाव (Asplenia)
 - 3. मस्तिष्क पक्षाघात (Cerebral Palsy)
 - 4. काली खांसी (Pertussis)

Question ID : 264330161079
Option 1 ID : 264330631647
Option 2 ID : 264330631650
Option 3 ID : 264330631649
Option 4 ID : 264330631648
Status : Answered
Chosen Option : 1

Q.12 निम्नलिखित में से कौन-सा भारत में सूक्ष्म वित्त संस्थानों का लाभ है?

- Ans
- 1. महिला उद्यमियों के लिए न्यूनतम समर्थन
 - 2. गरीबी उन्मूलन पर सीमित प्रभाव
 - 3. वित्तीय समावेशन में वृद्धि
 - 4. अनौपचारिक ऋण स्रोतों पर निर्भरता का बढ़ना

Question ID : 264330157291
Option 1 ID : 264330616530
Option 2 ID : 264330616528
Option 3 ID : 264330616529
Option 4 ID : 264330616527
Status : Answered
Chosen Option : 3

Q.13 विजय स्तम्भ किस राज्य में स्थित है?

- Ans
- 1. पंजाब
 - 2. राजस्थान
 - 3. उत्तरप्रदेश
 - 4. गुजरात

Question ID : 264330160771
Option 1 ID : 264330630418
Option 2 ID : 264330630415
Option 3 ID : 264330630417
Option 4 ID : 264330630416
Status : Answered
Chosen Option : 2

Q.14 निम्नलिखित में से 'हाई-डॉंस' (Hi-Dance) नामक फ्र्यूज़न नृत्य शैली शुरू करने का श्रेय किसे दिया जाता है?

- Ans
- ✓ 1. उदय शंकर
 - ✗ 2. शशधर आचार्य
 - ✗ 3. मणि दामोदर
 - ✗ 4. कार्तिक राम

Question ID : 264330155477
Option 1 ID : 264330609313
Option 2 ID : 264330609311
Option 3 ID : 264330609312
Option 4 ID : 264330609314
Status : Answered
Chosen Option : 1

Q.15 लोकसभा के प्रथम अध्यक्ष कौन थे?

- Ans
- ✗ 1. अनंतशयनम अय्यंगार (Ananthasayanam Ayyangar)
 - ✗ 2. एन. एस. रेड्डी (NS Reddy)
 - ✗ 3. मीरा कुमार (Mira Kumar)
 - ✓ 4. जी. वी. मावलंकर (GV Mavalankar)

Question ID : 264330159921
Option 1 ID : 264330627032
Option 2 ID : 264330627034
Option 3 ID : 264330627033
Option 4 ID : 264330627031
Status : Answered
Chosen Option : 4

Q.16 निम्नलिखित में से किस शहर में खेलो इंडिया यूथ गेम्स 2019 का दूसरा संस्करण आयोजित किया गया था?

- Ans
- ✓ 1. पुणे
 - ✗ 2. मुंबई
 - ✗ 3. नई दिल्ली
 - ✗ 4. गुवाहाटी

Question ID : 264330158219
Option 1 ID : 264330620236
Option 2 ID : 264330620238
Option 3 ID : 264330620235
Option 4 ID : 264330620237
Status : Answered
Chosen Option : 2

Q.17 बाल विवाह निरोधक अधिनियम (Child Marriage Restraint Act) निम्नलिखित में से किस वर्ष पारित किया गया था?

- Ans 1. 1878
 2. 1929
 3. 1856
 4. 1947

Question ID : 264330162349
Option 1 ID : 264330636723
Option 2 ID : 264330636724
Option 3 ID : 264330636726
Option 4 ID : 264330636725
Status : Answered
Chosen Option : 2

Q.18 सर्वेंट्स ऑफ इंडिया सोसाइटी (Servants of India Society) की स्थापना का श्रेय किसे दिया जाता है?

- Ans 1. लाला लाजपत राय
 2. एम. जी. रानाडे
 3. सी. आर. दास
 4. गोपाल कृष्ण गोखले

Question ID : 264330162331
Option 1 ID : 264330636653
Option 2 ID : 264330636651
Option 3 ID : 264330636652
Option 4 ID : 264330636654
Status : Not Answered
Chosen Option : --

Q.19 'कानून का शासन' की अवधारणा का प्रतिपादन किसने किया?

- Ans 1. ऑस्टिन
 2. सी.के. दफ्तरी
 3. ए.के. सेन
 4. ए.वी. डायसी

Question ID : 264330159590
Option 1 ID : 264330625722
Option 2 ID : 264330625721
Option 3 ID : 264330625720
Option 4 ID : 264330625719
Status : Not Answered
Chosen Option : --

Q.20 भारत के पश्चिमी तटों पर गर्मियों के दौरान काफी मात्रा में वर्षा (substantial rainfall) का मुख्य कारण क्या है?

- Ans 1. पश्चिमी घाट
 2. पूर्वी घाट
 3. पूर्वी पवनें
 4. सिंधु नदी

Question ID : 264330161305
Option 1 ID : 264330632549
Option 2 ID : 264330632550
Option 3 ID : 264330632547
Option 4 ID : 264330632548
Status : Answered
Chosen Option : 3

Q.21 एक वर्ष के दौरान देश के भीतर उत्पादित सभी अंतिम वस्तुओं और सेवाओं का मूल्य _____ के रूप में जाना जाता है।

- Ans 1. निवल घरेलू उत्पाद
 2. सकल घरेलू उत्पाद
 3. सकल राष्ट्रीय उत्पाद
 4. निवल राष्ट्रीय उत्पाद

Question ID : 264330161457
Option 1 ID : 264330633155
Option 2 ID : 264330633156
Option 3 ID : 264330633157
Option 4 ID : 264330633158
Status : Answered
Chosen Option : 3

Q.22 एसीएफ़ (ACF) ने ग्रैंडमास्टर _____ को प्लेयर ऑफ़ द ईयर पुरस्कार से सम्मानित किया, जो 2700 एलो-रेटिंग लक्ष्य (Elo-rating mark) को तोड़ने वाले केवल छठे भारतीय हैं और 2700 से ऊपर रेटिंग पाने वाले देश के सबसे कम उम्र के ग्रैंडमास्टर हैं।

- Ans 1. आदित खान
 2. कोशी वरुगेसी
 3. डी गुकेश
 4. एन.आर विग्नेश

Question ID : 264330161439
Option 1 ID : 264330633084
Option 2 ID : 264330633083
Option 3 ID : 264330633086
Option 4 ID : 264330633085
Status : Answered
Chosen Option : 3

Q.23 लम्बाडी (Lambadi) नृत्य _____ जनजाति का लोक नृत्य है और इसकी उत्पत्ति आंध्रप्रदेश में हुई थी।

- Ans
- 1. डब्बा येरुकुला (Dabba Yerukula)
 - 2. बंजारा (Banjara)
 - 3. सुगाली (Sugali)
 - 4. नक्काला (Nakkala)

Question ID : 264330160798
Option 1 ID : 264330630524
Option 2 ID : 264330630523
Option 3 ID : 264330630525
Option 4 ID : 264330630526
Status : Answered
Chosen Option : 4

Q.24 महात्मा गांधी के बारे में निम्नलिखित में से कौन-सा कथन गलत है?

- Ans
- 1. 1942 में उन्होंने भारत छोड़ो आन्दोलन चलाया।
 - 2. उन्होंने 1910 में चंपारण सत्याग्रह का नेतृत्व किया।
 - 3. महात्मा गांधी का जन्म 1869 में पोरबंदर में हुआ था।
 - 4. उन्होंने 1930 में दांडी नमक मार्च का नेतृत्व किया।

Question ID : 264330160826
Option 1 ID : 264330630638
Option 2 ID : 264330630637
Option 3 ID : 264330630635
Option 4 ID : 264330630636
Status : Answered
Chosen Option : 2

Q.25 आजादी के बाद मुंबई बंदरगाह पर व्यापार के भार अथवा बोझ को कम करने के लिए _____ बंदरगाह विकसित किया गया था।

- Ans
- 1. विशाखापत्तनम
 - 2. चेन्नई
 - 3. कोलकाता
 - 4. कांडला

Question ID : 264330161513
Option 1 ID : 264330633379
Option 2 ID : 264330633380
Option 3 ID : 264330633381
Option 4 ID : 264330633382
Status : Answered
Chosen Option : 4

Q.1 Select the most appropriate idiom to fill in the blank.
You are an intellectual with a professional degree; you can do wonders as _____.

- Ans**
- 1. you can say it again
 - 2. you are playing with fire
 - 3. your mileage may vary
 - 4. the world is your oyster

Question ID : 264330153560
Option 1 ID : 264330601739
Option 2 ID : 264330601742
Option 3 ID : 264330601741
Option 4 ID : 264330601740
Status : Answered
Chosen Option : 4

Q.2 Select the most appropriate idiom to fill in the blank.
The deal was _____ for three months.

- Ans**
- 1. put on ice
 - 2. broken the ice
 - 3. tipped of the iceberg
 - 4. cut no ice

Question ID : 264330153102
Option 1 ID : 264330599974
Option 2 ID : 264330599972
Option 3 ID : 264330599973
Option 4 ID : 264330599971
Status : Answered
Chosen Option : 1

Q.3 Select the INCORRECTLY spelt word.

- Ans**
- 1. Superficial
 - 2. Curiosity
 - 3. Vehemence
 - 4. Synagogue

Question ID : 264330153220
Option 1 ID : 264330600441
Option 2 ID : 264330600442
Option 3 ID : 264330600439
Option 4 ID : 264330600440
Status : Answered
Chosen Option : 2

Q.4 Select the most appropriate ANTONYM of the given word.
Fame

- Ans 1. Name
 2. Scandal
 3. Stingy
 4. Shame

Question ID : 264330152592
Option 1 ID : 264330597971
Option 2 ID : 264330597972
Option 3 ID : 264330597973
Option 4 ID : 264330597974
Status : Answered
Chosen Option : 1

Q.5 Select the most appropriate ANTONYM of the given word.
Cheap

- Ans 1. Old
 2. Ignorant
 3. Expensive
 4. Untangle

Question ID : 264330152717
Option 1 ID : 264330598470
Option 2 ID : 264330598467
Option 3 ID : 264330598468
Option 4 ID : 264330598469
Status : Answered
Chosen Option : 3

Q.6 Select the sentence that has NO spelling errors.

- Ans 1. My new phone has a high-resolution screen and a powerfull procesor, which makes it perfect for streaming videos and playing games.
 2. My new phone has a high-resolution screen and a powerful processor, which makes it perfect for streaming videos and playing games.
 3. My new phone has a high-resolution screan and powerfull procesor, which makes it perfect for streeming videos and playing games.
 4. My new phone has a high-resolution screen and powerful processor, which makes it perfect for streeming videos and playing games.

Question ID : 264330152647
Option 1 ID : 264330598193
Option 2 ID : 264330598192
Option 3 ID : 264330598194
Option 4 ID : 264330598191
Status : Answered
Chosen Option : 2

Q.7 Select the most appropriate option that can substitute the underlined segment in the given sentence.

Rashmi works at the hospital, don't she?

- Ans
- 1. does she?
 - 2. has she?
 - 3. doesn't she?
 - 4. do she?

Question ID : 264330153595

Option 1 ID : 264330601868

Option 2 ID : 264330601867

Option 3 ID : 264330601870

Option 4 ID : 264330601869

Status : Answered

Chosen Option : 3

Q.8 The following sentence has been split into four segments. Identify the segment that contains a grammatical error.

They decided to / travel in train / instead of driving / to New Delhi.

- Ans
- 1. instead of driving
 - 2. to New Delhi
 - 3. They decided to
 - 4. travel in train

Question ID : 264330155429

Option 1 ID : 264330609125

Option 2 ID : 264330609126

Option 3 ID : 264330609123

Option 4 ID : 264330609124

Status : Answered

Chosen Option : 4

Q.9 The following sentence has been split into four segments. Identify the segment that contains an error.

I have seen / a movie / on schooling / yesterday.

- Ans
- 1. yesterday
 - 2. a movie
 - 3. on schooling
 - 4. I have seen

Question ID : 264330155322

Option 1 ID : 264330608730

Option 2 ID : 264330608728

Option 3 ID : 264330608729

Option 4 ID : 264330608727

Status : Answered

Chosen Option : 4

Q.10 Select the most appropriate option that can substitute the underlined segment in the given sentence.

Kavya invited all her friends, isn't it?

- Ans
- 1. don't she?
 - 2. isn't she?
 - 3. did she?
 - 4. didn't she?

Question ID : 264330152730

Option 1 ID : 264330598522

Option 2 ID : 264330598519

Option 3 ID : 264330598520

Option 4 ID : 264330598521

Status : Answered

Chosen Option : 4

Q.11 The given sentence contains an error. Select the option that correctly rectifies the error.

This is the eldest standing structure of Chola architecture in India.

- Ans
- 1. This is the more elder standing structure of Chola architecture in India.
 - 2. This is the more older standing structure of Chola architecture in India.
 - 3. This is the oldest standing structure of Chola architecture in India.
 - 4. This is the most old standing structure of Chola architecture in India.

Question ID : 264330152611

Option 1 ID : 264330598050

Option 2 ID : 264330598047

Option 3 ID : 264330598049

Option 4 ID : 264330598048

Status : Answered

Chosen Option : 3

Q.12 Parts of the following sentence have been given as options. Select the option that contains an error.

Radha will have learnt cooking by the time she will have married.

- Ans
- 1. by the time
 - 2. learnt cooking
 - 3. she will have married
 - 4. Radha will have

Question ID : 264330152820

Option 1 ID : 264330598873

Option 2 ID : 264330598872

Option 3 ID : 264330598874

Option 4 ID : 264330598871

Status : Answered

Chosen Option : 3

Q.13 Select the most appropriate ANTONYM of the given word.
Strengthen

- Ans** 1. Fortify
 2. Ascend
 3. Strain
 4. Debilitate

Question ID : 264330151875
Option 1 ID : 264330595119
Option 2 ID : 264330595121
Option 3 ID : 264330595122
Option 4 ID : 264330595120
Status : Answered
Chosen Option : 4

Q.14 Select the option that can be used as a one-word substitute for the given group of words.

Fear of closed spaces

- Ans** 1. Xenophobia
 2. Claustrophobia
 3. Zoophobia
 4. Hydrophobia

Question ID : 264330151867
Option 1 ID : 264330595087
Option 2 ID : 264330595090
Option 3 ID : 264330595088
Option 4 ID : 264330595089
Status : Answered
Chosen Option : 2

Q.15 Select the most appropriate meaning of the given idiom.
To cross swords

- Ans** 1. To defend
 2. To kill
 3. To fight
 4. To arrange

Question ID : 264330156174
Option 1 ID : 264330612096
Option 2 ID : 264330612095
Option 3 ID : 264330612097
Option 4 ID : 264330612098
Status : Answered
Chosen Option : 3

Q.16 Select the most appropriate meaning of the underlined idiom in the following sentence.

Riddhi believes in wearing her heart on her sleeve. That is why she has so many friends.

- Ans
- 1. To criticise everybody
 - 2. To talk aloud
 - 3. To openly and freely express one's emotions
 - 4. To wear a badge of honour

Question ID : 264330153052
Option 1 ID : 264330599778
Option 2 ID : 264330599775
Option 3 ID : 264330599777
Option 4 ID : 264330599776
Status : Answered
Chosen Option : 3

Q.17 Select the option that can be used as a one-word substitute for the underlined group of words.

I suppose dancing that well would require a lot of actual application.

- Ans
- 1. prevention
 - 2. perseverance
 - 3. practice
 - 4. perception

Question ID : 264330153493
Option 1 ID : 264330601487
Option 2 ID : 264330601490
Option 3 ID : 264330601489
Option 4 ID : 264330601488
Status : Answered
Chosen Option : 3

Q.18 The following sentence has been split into four segments. Identify the segment that contains a grammatical error.

A music / is a great way / to express / your emotions.

- Ans
- 1. to express
 - 2. your emotions
 - 3. is a great way
 - 4. A music

Question ID : 264330155414
Option 1 ID : 264330609065
Option 2 ID : 264330609066
Option 3 ID : 264330609064
Option 4 ID : 264330609063
Status : Answered
Chosen Option : 2

Q.19 Select the most appropriate option to fill in the blank.
Virtual worlds are recently new phenomena in that they _____ people to meet and socially interact with others in a variety of online environments.

- Ans
- 1. choose
 - 2. enable
 - 3. forbid
 - 4. bring

Question ID : 264330151904
Option 1 ID : 264330595234
Option 2 ID : 264330595233
Option 3 ID : 264330595231
Option 4 ID : 264330595232
Status : Answered
Chosen Option : 2

Q.20 Identify the INCORRECTLY spelt word in the following sentence.
Being a doktor, my sister Meera is prepared for an emergency usually.

- Ans
- 1. prepared
 - 2. doktor
 - 3. emergency
 - 4. usually

Question ID : 264330152599
Option 1 ID : 264330598000
Option 2 ID : 264330597999
Option 3 ID : 264330598001
Option 4 ID : 264330598002
Status : Answered
Chosen Option : 2

Comprehension:

In the following passage, some words have been deleted. Read the passage carefully and select the most appropriate option to fill in each blank.

A cashless India is the first step towards making the dream of digital India a reality.

Government is trying to (1)_____ a cashless environment in the country.

Demonetisation appears to be a stepping (2)_____ in that direction. To help facilitate this, government even (3)_____ its own app 'BHIM' built for the same purpose. The

(4)_____ of conducting online financial transactions is probably the biggest motivator to go digital. You will no longer need to carry wads of cash, plastic cards or even queue up for ATM withdrawals. It's also safer and easier spending option when you are travelling. Making transactions digitally makes it easy to keep track of your finances. The (5)_____ are enormous for everyone if you leave out the low-income group, which will face a huge challenge. For the rest of the country, it is constructive and simple. However, the convenience of net-banking, m-banking, card or mobile wallet transactions can make you spend more than your budget.

SubQuestion No : 21

Q.21 Select the most appropriate option to fill in blank No. 1.

- Ans
- 1. create
 - 2. determine
 - 3. precede
 - 4. preach

Question ID : 264330152700
Option 1 ID : 264330598402
Option 2 ID : 264330598400
Option 3 ID : 264330598401
Option 4 ID : 264330598399
Status : Answered
Chosen Option : 1

Comprehension:

In the following passage, some words have been deleted. Read the passage carefully and select the most appropriate option to fill in each blank.

A cashless India is the first step towards making the dream of digital India a reality. Government is trying to (1)_____ a cashless environment in the country. Demonetisation appears to be a stepping (2)_____ in that direction. To help facilitate this, government even (3)_____ its own app 'BHIM' built for the same purpose. The (4)_____ of conducting online financial transactions is probably the biggest motivator to go digital. You will no longer need to carry wads of cash, plastic cards or even queue up for ATM withdrawals. It's also safer and easier spending option when you are travelling. Making transactions digitally makes it easy to keep track of your finances. The (5)_____ are enormous for everyone if you leave out the low-income group, which will face a huge challenge. For the rest of the country, it is constructive and simple. However, the convenience of net-banking, m-banking, card or mobile wallet transactions can make you spend more than your budget.

SubQuestion No : 22

Q.22 Select the most appropriate option to fill in blank No. 2.

- Ans 1. stairs
 2. stone
 3. matter
 4. method

Question ID : 264330152701
Option 1 ID : 264330598406
Option 2 ID : 264330598404
Option 3 ID : 264330598403
Option 4 ID : 264330598405
Status : Answered
Chosen Option : 1

Comprehension:

In the following passage, some words have been deleted. Read the passage carefully and select the most appropriate option to fill in each blank.

A cashless India is the first step towards making the dream of digital India a reality. Government is trying to (1)_____ a cashless environment in the country. Demonetisation appears to be a stepping (2)_____ in that direction. To help facilitate this, government even (3)_____ its own app 'BHIM' built for the same purpose. The (4)_____ of conducting online financial transactions is probably the biggest motivator to go digital. You will no longer need to carry wads of cash, plastic cards or even queue up for ATM withdrawals. It's also safer and easier spending option when you are travelling. Making transactions digitally makes it easy to keep track of your finances. The (5)_____ are enormous for everyone if you leave out the low-income group, which will face a huge challenge. For the rest of the country, it is constructive and simple. However, the convenience of net-banking, m-banking, card or mobile wallet transactions can make you spend more than your budget.

SubQuestion No : 23

Q.23 Select the most appropriate option to fill in blank No. 3.

- Ans 1. launched
 2. submitted
 3. followed
 4. sensed

Question ID : 264330152702
Option 1 ID : 264330598407
Option 2 ID : 264330598408
Option 3 ID : 264330598410
Option 4 ID : 264330598409
Status : Answered
Chosen Option : 1

Comprehension:

In the following passage, some words have been deleted. Read the passage carefully and select the most appropriate option to fill in each blank.

A cashless India is the first step towards making the dream of digital India a reality. Government is trying to (1)_____ a cashless environment in the country. Demonetisation appears to be a stepping (2)_____ in that direction. To help facilitate this, government even (3)_____ its own app 'BHIM' built for the same purpose. The (4)_____ of conducting online financial transactions is probably the biggest motivator to go digital. You will no longer need to carry wads of cash, plastic cards or even queue up for ATM withdrawals. It's also safer and easier spending option when you are travelling. Making transactions digitally makes it easy to keep track of your finances. The (5)_____ are enormous for everyone if you leave out the low-income group, which will face a huge challenge. For the rest of the country, it is constructive and simple. However, the convenience of net-banking, m-banking, card or mobile wallet transactions can make you spend more than your budget.

SubQuestion No : 24

Q.24 Select the most appropriate option to fill in blank No. 4.

- Ans 1. agony
 2. hassle
 3. ease
 4. delay

Question ID : 264330152703

Option 1 ID : 264330598411

Option 2 ID : 264330598412

Option 3 ID : 264330598414

Option 4 ID : 264330598413

Status : Answered

Chosen Option : 3

Comprehension:

In the following passage, some words have been deleted. Read the passage carefully and select the most appropriate option to fill in each blank.

A cashless India is the first step towards making the dream of digital India a reality. Government is trying to (1)_____ a cashless environment in the country. Demonetisation appears to be a stepping (2)_____ in that direction. To help facilitate this, government even (3)_____ its own app 'BHIM' built for the same purpose. The (4)_____ of conducting online financial transactions is probably the biggest motivator to go digital. You will no longer need to carry wads of cash, plastic cards or even queue up for ATM withdrawals. It's also safer and easier spending option when you are travelling. Making transactions digitally makes it easy to keep track of your finances. The (5)_____ are enormous for everyone if you leave out the low-income group, which will face a huge challenge. For the rest of the country, it is constructive and simple. However, the convenience of net-banking, m-banking, card or mobile wallet transactions can make you spend more than your budget.

SubQuestion No : 25

Q.25 Select the most appropriate option to fill in blank No. 5.

- Ans 1. attempts
 2. severity
 3. benefits
 4. scenarios

Question ID : 264330152704

Option 1 ID : 264330598417

Option 2 ID : 264330598418

Option 3 ID : 264330598416

Option 4 ID : 264330598415

Status : Answered

Chosen Option : 3

**Multi Tasking Non Technical Staff and Havaladar CBIC and CBN
Examination 2023**

Roll Number	KD Job Updates
Candidate Name	KD Job Updates
Venue Name	Pariksha Desk
Exam Date	11/09/2023
Exam Time	4:00 PM - 6:00 PM
Subject	MTS Non Tech Havaladar CBIC and CBN Examination 2023

Section : Numerical and Mathematical Ability

Q.1 साधारण ब्याज पर ऋण दी गई एक निश्चित धनराशि 2 वर्षों में ₹12,600 और 4 वर्षों में ₹16,200 हो जाती है। वार्षिक प्रतिशत दर क्या है?

- Ans
- 1. $17\frac{1}{2}\%$
 - 2. $12\frac{6}{7}\%$
 - 3. 20 %
 - 4. 25 %

Question ID : 264330159036

Option 1 ID : 264330623504

Option 2 ID : 264330623506

Option 3 ID : 264330623503

Option 4 ID : 264330623505

Status : Answered

Chosen Option : 2

Q.2 यदि $a : b = 3 : 7$, तो $(5a + 7b) : (7a + 5b)$ का अनुपात कितना है?

- Ans
- 1. 8 : 7
 - 2. 7 : 9
 - 3. 3 : 7
 - 4. 7 : 11

Question ID : 264330154081

Option 1 ID : 264330603789

Option 2 ID : 264330603790

Option 3 ID : 264330603788

Option 4 ID : 264330603787

Status : Answered

Chosen Option : 1

Q.3 राधा, प्रतिमा और रीना एक वृत्ताकार पथ पर दौड़ना शुरू करती हैं और वे क्रमशः 50 सेकंड, 75 सेकंड और 100 सेकंड में अपना चक्कर पूरा करती हैं। कितने समय (मिनटों में) के बाद वे पहली बार प्रारंभिक बिंदु पर एक साथ मिलेंगी?

- Ans**
- 1. 3
 - 2. 4
 - 3. 5
 - 4. 6

Question ID : 264330155686
Option 1 ID : 264330610147
Option 2 ID : 264330610148
Option 3 ID : 264330610149
Option 4 ID : 264330610150
Status : Answered
Chosen Option : 3

Q.4 उस समचतुर्भुज का क्षेत्रफल (cm^2 में) ज्ञात कीजिए जिसके विकर्णों की लंबाई क्रमशः 7.5 cm और 5.6 cm हैं।

- Ans**
- 1. 27
 - 2. 28
 - 3. 30
 - 4. 21

Question ID : 264330153862
Option 1 ID : 264330602913
Option 2 ID : 264330602911
Option 3 ID : 264330602914
Option 4 ID : 264330602912
Status : Answered
Chosen Option : 4

Q.5 एक यात्रा की $\frac{2}{5}$ दूरी 45 km/h की चाल से तय की जाती है, और शेष दूरी 63 km/h की चाल से तय की जाती है। पूरी यात्रा के लिए औसत चाल (km/h में, निकटतम पूर्णांक तक सन्निकटित) क्या है?

- Ans**
- 1. 58
 - 2. 55
 - 3. 54
 - 4. 60

Question ID : 264330156470
Option 1 ID : 264330613270
Option 2 ID : 264330613269
Option 3 ID : 264330613268
Option 4 ID : 264330613267
Status : Answered
Chosen Option : 3

Q.6 एक कंपनी ₹10,000 में कच्चा माल खरीदती है और एक उत्पाद बनाती है, जिसमें श्रम और अन्य चीजों में अतिरिक्त ₹5,000 खर्च होते हैं। उत्पाद को ₹25,000 में एक वितरक को बेचा जाता है, जो इसका मूल्य 20% अधिक अंकित करता है और इसे खुदरा विक्रेता को बेच देता है। इसके बाद खुदरा विक्रेता इसका मूल्य 25% अधिक अंकित करता है और इसे अंतिम ग्राहक को बेच देता है। कंपनी, वितरक और खुदरा विक्रेता द्वारा संयुक्त रूप से अर्जित कुल लाभ प्रतिशत कितना है?

- Ans**
- 1. 135%
 - 2. 150%
 - 3. 100%
 - 4. 125%

Question ID : 264330156266
Option 1 ID : 264330612465
Option 2 ID : 264330612466
Option 3 ID : 264330612463
Option 4 ID : 264330612464
Status : Answered
Chosen Option : 2

Q.7 एक चोर 500 m की दूरी पर एक पुलिसकर्मी को देखता है। चोर 60 km/h की चाल से दौड़ना शुरू करता है और पुलिसकर्मी 70 km/h की चाल से दौड़ते हुए उसका पीछा करता है। चोर को पकड़ने में पुलिसकर्मी को कितना समय (मिनटों में) लगेगा।

- Ans**
- 1. 15
 - 2. 10
 - 3. 3
 - 4. 6

Question ID : 264330153852
Option 1 ID : 264330602874
Option 2 ID : 264330602871
Option 3 ID : 264330602873
Option 4 ID : 264330602872
Status : Answered
Chosen Option : 3

Q.8 देव और गोयल साथ मिलकर किसी काम को 14 दिनों में पूरा कर सकते हैं और देव अकेले उसी काम को 27 दिनों में पूरा कर सकता है। गोयल अकेले इस काम को कितने दिनों में पूरा कर सकता है?

- Ans**
- 1. $29\frac{1}{13}$
 - 2. $32\frac{1}{13}$
 - 3. $30\frac{1}{13}$
 - 4. $21\frac{1}{13}$

Question ID : 264330155755
Option 1 ID : 264330610424
Option 2 ID : 264330610426
Option 3 ID : 264330610425
Option 4 ID : 264330610423
Status : Answered
Chosen Option : 1

Q.9 A, B और C एक काम को क्रमशः 12 दिन, 24 दिन और 36 दिन में पूरा कर सकते हैं। A पहले दिन अकेले काम करना शुरू करता है और फिर A की क्रमशः दूसरे दिन B और तीसरे दिन C सहायता करते हैं। यह पैटर्न काम पूरा होने तक दोहराया जाता है। काम कितने दिनों में समाप्त हो जाएगा?

- Ans**
- 1. 10
 - 2. 9
 - 3. $8\frac{1}{2}$
 - 4. $9\frac{1}{2}$

Question ID : 264330156310

Option 1 ID : 264330612639

Option 2 ID : 264330612641

Option 3 ID : 264330612640

Option 4 ID : 264330612642

Status : Answered

Chosen Option : 4

Q.10 उस एकल परिमेय संख्या की पहचान कीजिए जो दिए गए व्यंजक के स्थान पर आ सकती है।

$$[1^2 + 2^2 + 3^2 + 4^2] \times \frac{2}{3 \times 5} \div \left(\frac{1}{4}\right)^2$$

- Ans**
- 1. 16
 - 2. $\frac{1}{64}$
 - 3. $\frac{1}{16}$
 - 4. 64

Question ID : 264330154115

Option 1 ID : 264330603925

Option 2 ID : 264330603924

Option 3 ID : 264330603926

Option 4 ID : 264330603923

Status : Answered

Chosen Option : 4

Q.11 प्रत्येक 8 cm आधार के व्यास और 6 cm ऊंचाई वाले कुछ ठोस धात्विक लम्ब वृत्तीय शंकुओं को पिघलाकर 12 cm त्रिज्या का एक ठोस गोला बनाया जाता है। पिघलाए गए लंब वृत्तीय शंकुओं की संख्या ज्ञात कीजिए।

- Ans**
- 1. 60
 - 2. 72
 - 3. 70
 - 4. 66

Question ID : 264330156019

Option 1 ID : 264330611476

Option 2 ID : 264330611477

Option 3 ID : 264330611475

Option 4 ID : 264330611478

Status : Answered

Chosen Option : 1

Q.12 21 प्रश्न पत्रों के औसत अंक 50 हैं। पहले 11 प्रश्न पत्रों के औसत अंक 52 हैं और अंतिम 11 प्रश्न पत्रों के औसत अंक 45 हैं। 11वें प्रश्न पत्र के अंक ज्ञात कीजिए।

- Ans
- 1. 15
 - 2. 17
 - 3. 14
 - 4. 20

Question ID : 264330153834
Option 1 ID : 264330602801
Option 2 ID : 264330602802
Option 3 ID : 264330602799
Option 4 ID : 264330602800
Status : Answered
Chosen Option : 2

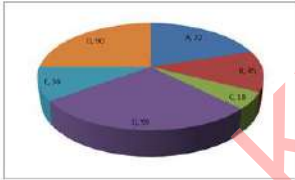
Q.13 एक साइकिल को ₹5,800 में बेचने पर, एक आदमी 45% का लाभ अर्जित करता है। साइकिल का क्रय मूल्य क्या है?

- Ans
- 1. ₹4,000
 - 2. ₹3,500
 - 3. ₹4,500
 - 4. ₹3,000

Question ID : 264330162068
Option 1 ID : 264330635599
Option 2 ID : 264330635601
Option 3 ID : 264330635602
Option 4 ID : 264330635600
Status : Answered
Chosen Option : 1

Q.14 निम्नलिखित वृत्त आलेख में वर्ष 2015 के दौरान भारत से अलग-अलग प्रकार के कपड़ों के निर्यात (डिग्री माप में) को दर्शाया गया है।

कुल निर्यात में से, कपड़े B का प्रतिशत कितना है?



- Ans
- 1. 25%
 - 2. 12.5%
 - 3. 45%
 - 4. 18%

Question ID : 264330154065
Option 1 ID : 264330603724
Option 2 ID : 264330603725
Option 3 ID : 264330603723
Option 4 ID : 264330603726
Status : Answered
Chosen Option : 2

Q.15 एक समूह के 25 विद्यार्थियों की औसत आयु 14 वर्ष है। जब शिक्षक की आयु को इसमें शामिल कर लिया जाता है, तो औसत में 1.5 वर्ष की वृद्धि हो जाती है। शिक्षक की आयु (वर्षों में) क्या है?

- Ans** 1. 53
 2. 42
 3. 46
 4. 50

Question ID : 264330156466
Option 1 ID : 264330613253
Option 2 ID : 264330613254
Option 3 ID : 264330613252
Option 4 ID : 264330613251
Status : Answered
Chosen Option : 1

Q.16 मयूर और अहम 2 : 3 के अनुपात में निवेश करके एक साझेदारी में प्रवेश करते हैं। कुल लाभ का 10% दान में जाता है। यदि अहम का हिस्सा ₹4,860 है, तो कुल अर्जित लाभ (₹ में) कितना है?

- Ans** 1. 7,200
 2. 9,000
 3. 8,500
 4. 11,000

Question ID : 264330155743
Option 1 ID : 264330610378
Option 2 ID : 264330610376
Option 3 ID : 264330610377
Option 4 ID : 264330610375
Status : Answered
Chosen Option : 3

Q.17 15% वार्षिक चक्रवृद्धि ब्याज की दर (वार्षिक रूप से संयोजित) पर ₹1,60,000 कितने वर्षों में ₹2,79,841 हो जाएंगे?

- Ans** 1. 6
 2. 3
 3. 5
 4. 4

Question ID : 264330156189
Option 1 ID : 264330612155
Option 2 ID : 264330612158
Option 3 ID : 264330612156
Option 4 ID : 264330612157
Status : Answered
Chosen Option : 3

Q.18 निम्न तालिका में पिछले 5 वर्षों के दौरान पांच परिवारों के वार्षिक व्यय को (₹ हजार में) दर्शाया गया है।

वर्ष → परिवार ↓	2017	2018	2019	2020	2021
F ₁	35	50	55	60	45
F ₂	45	35	60	55	40
F ₃	53	40	45	65	50
F ₄	40	30	35	50	45
F ₅	35	45	55	50	45

सभी वर्षों के दौरान किस परिवार का व्यय सबसे अधिक था?

- Ans
- 1. F₁
 - 2. F₃
 - 3. F₄
 - 4. F₅

Question ID : 264330154061

Option 1 ID : 264330603707

Option 2 ID : 264330603709

Option 3 ID : 264330603710

Option 4 ID : 264330603708

Status : Answered

Chosen Option : 2

Q.19 क्रमशः 210 m और 150 m लंबी दो रेलगाड़ियां A और B समानांतर पटरियों पर एक ही दिशा में चल रही हैं। यदि A और B की चाल क्रमशः 110 km/h और 128 km/h है, तो रेलगाड़ी B को रेलगाड़ी A को पार करने में कितना समय (सेकंड में) लगेगा?

- Ans
- 1. 71
 - 2. 70
 - 3. 74
 - 4. 72

Question ID : 264330156234

Option 1 ID : 264330612336

Option 2 ID : 264330612335

Option 3 ID : 264330612338

Option 4 ID : 264330612337

Status : Answered

Chosen Option : 4

Q.20 यदि T की आय उसकी बचत का 8 गुना है, तो उसका व्यय उसकी बचत का _____ गुना है।

- Ans
- 1. 5
 - 2. 6
 - 3. 8
 - 4. 7

Question ID : 264330153803
Option 1 ID : 264330602678
Option 2 ID : 264330602677
Option 3 ID : 264330602675
Option 4 ID : 264330602676
Status : Answered
Chosen Option : 4

Section : Reasoning Ability and Problem Solving

Q.1 यदि 13 मार्च 2007 को मंगलवार है, तो 14 सितंबर 2017 को सप्ताह का कौन-सा दिन होगा?

- Ans
- 1. गुरुवार
 - 2. मंगलवार
 - 3. बुधवार
 - 4. सोमवार

Question ID : 264330154335
Option 1 ID : 264330604805
Option 2 ID : 264330604804
Option 3 ID : 264330604806
Option 4 ID : 264330604803
Status : Answered
Chosen Option : 3

Q.2 एक निश्चित कूट भाषा में, 'SCAR' को '2386' लिखा जाता है और 'RACE' को '8642' लिखा जाता है। उसी कूट भाषा में 'E' को कैसे लिखा जाएगा?

- Ans
- 1. 2
 - 2. 4
 - 3. 6
 - 4. 8

Question ID : 264330151708
Option 1 ID : 264330594461
Option 2 ID : 264330594459
Option 3 ID : 264330594460
Option 4 ID : 264330594462
Status : Answered
Chosen Option : 1

Q.3 यदि '+' और '-' को आपस में बदल दिया जाए और 'x' और '/' को आपस में बदल दिया जाए तो निम्नलिखित समीकरण में '?' के स्थान पर क्या आएगा?
 $10 \div 2 - 6 \times 7 + 1 = ?$

- Ans
- 1. 18
 - 2. 15
 - 3. 24
 - 4. 19

Question ID : 264330154661
Option 1 ID : 264330606108
Option 2 ID : 264330606107
Option 3 ID : 264330606109
Option 4 ID : 264330606110
Status : Answered
Chosen Option : 4

Q.4 नीचे दिए गए कथनों और निष्कर्षों को ध्यानपूर्वक पढ़िए। आपको मानना है कि दिए गए कथन सत्य हैं चाहे वे समान्यतः ज्ञात तथ्यों से अलग प्रतीत होते हों। आपको निश्चय करना है कि कौन-सा/कौन-से निष्कर्ष तार्किक रूप से दिए गए कथनों के अनुसार है/हैं।

कथन: सभी सेब, आग हैं। सभी आग, गर्म है। कुछ गर्म, केकड़े हैं।

निष्कर्ष I: कोई सेब, गर्म नहीं है।
निष्कर्ष II: कुछ केकड़े, आग हैं।

- Ans
- 1. न तो निष्कर्ष (I) और न ही (II) कथनों के अनुसार है।
 - 2. केवल निष्कर्ष (I) कथनों के अनुसार है।
 - 3. दोनों निष्कर्ष (I) और (II) कथनों के अनुसार हैं।
 - 4. केवल निष्कर्ष (II) कथनों के अनुसार है।

Question ID : 264330155918
Option 1 ID : 264330611077
Option 2 ID : 264330611075
Option 3 ID : 264330611078
Option 4 ID : 264330611076
Status : Answered
Chosen Option : 3

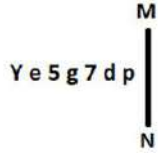
Q.5 उस सही विकल्प को चुनिए, जिसे दी गई श्रृंखला के रिक्त स्थानों में इसी क्रम में रखने पर श्रृंखला तार्किक रूप से पूरी हो जाएगी।

DFZ _ D _ CJ DF _ I _ FJH DF _ G

- Ans
- 1. KFFDL
 - 2. DLFFK
 - 3. FDFKL
 - 4. KDFLF

Question ID : 264330154724
Option 1 ID : 264330606362
Option 2 ID : 264330606361
Option 3 ID : 264330606359
Option 4 ID : 264330606360
Status : Answered
Chosen Option : 4

Q.6 दी गई आकृति के उस सही दर्पण प्रतिबिंब को चुनिए, जो नीचे दर्शाए गए अनुसार दर्पण को MN पर रखने पर बनेगा।



- Ans
- ✗ 1. q b L g 5 e Y
 - ✗ 2. q b 7 g 2 e Y
 - ✗ 3. d b g 7 2 e Y
 - ✓ 4. q b 7 g 2 e Y

Question ID : 264330151515

Option 1 ID : 264330593687

Option 2 ID : 264330593690

Option 3 ID : 264330593689

Option 4 ID : 264330593688

Status : Answered

Chosen Option : 4

Q.7 एक निश्चित तर्क के अनुसार 11, 123 से संबंधित है। समान तर्क के अनुसार, 20, 402 से संबंधित है। समान तर्क का अनुसरण करते हुए 13 निम्नलिखित में से किससे संबंधित है?

- Ans
- ✗ 1. 173
 - ✓ 2. 171
 - ✗ 3. 172
 - ✗ 4. 174

Question ID : 264330151582

Option 1 ID : 264330593957

Option 2 ID : 264330593955

Option 3 ID : 264330593956

Option 4 ID : 264330593958

Status : Answered

Chosen Option : 2

Q.8 दी गई श्रृंखला में प्रश्न चिन्ह '?' के स्थान पर क्या आना चाहिए?

7 16 43 ? 367 1096 3283

- Ans
- ✗ 1. 98
 - ✗ 2. 117
 - ✗ 3. 105
 - ✓ 4. 124

Question ID : 264330151490

Option 1 ID : 264330593587

Option 2 ID : 264330593589

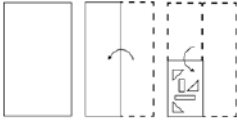
Option 3 ID : 264330593588

Option 4 ID : 264330593590

Status : Answered

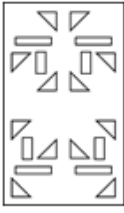
Chosen Option : 2

Q.9 निम्नलिखित आकृतियों में एक कागज़ के टुकड़े को मोड़ने के क्रम और मुड़े हुए कागज़ को काटने के तरीके को दर्शाया गया है। खोलने पर यह कागज़ कैसा दिखाई देगा?

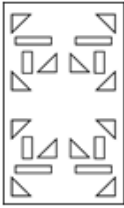


Ans

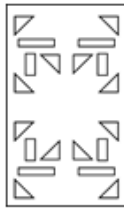
✗ 1.



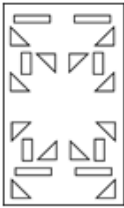
✗ 2.



✓ 3.



✗ 4.



Question ID : 264330155610

Option 1 ID : 264330609845

Option 2 ID : 264330609846

Option 3 ID : 264330609843

Option 4 ID : 264330609844

Status : Answered

Chosen Option : 3

Q.10 सात व्यक्ति, V, F, D, S, R, C और P एक सीधी पंक्ति में दक्षिण की ओर मुख करके बैठे हैं। V और P के बीच केवल दो व्यक्ति बैठे हैं। V के दाईं ओर केवल दो व्यक्ति बैठे हैं। D, S के बाईं ओर से तीसरे स्थान पर बैठा है। D और F का निकटतम पड़ोसी P है। C, S का निकटतम पड़ोसी है।

S और P के बीच कुल कितने व्यक्ति बैठे हैं?

Ans ✗ 1. दो

✓ 2. तीन

✗ 3. एक

✗ 4. चार

Question ID : 264330161694

Option 1 ID : 264330634104

Option 2 ID : 264330634105

Option 3 ID : 264330634103

Option 4 ID : 264330634106

Status : Answered

Chosen Option : 4

Q.11 अंग्रेजी वर्णमाला क्रम के आधार पर दी गई श्रृंखला में प्रश्न चिह्न (?) के स्थान पर क्या आना चाहिए?

LAT, KYS, JWR, IUQ, ?

- Ans
- ✗ 1. GRQ
 - ✗ 2. ISP
 - ✓ 3. HSP
 - ✗ 4. HQR

Question ID : 264330155777

Option 1 ID : 264330610514

Option 2 ID : 264330610512

Option 3 ID : 264330610513

Option 4 ID : 264330610511

Status : Answered

Chosen Option : 3

Q.12 यदि निम्नलिखित आकृति श्रृंखला को जारी रखना हो तो कौन-सी आकृति प्रश्न चिह्न (?) के स्थान पर आनी चाहिए?

L	I	G	Q	B	I	T	2	G	I	Q	2	
	B	6		6	G		Q	L		L	G	?
Q		T	T		L	I		6	6		T	

Ans

- ✗ 1.

6	I	T
	Q	2
L		G
- ✗ 2.

Q	2	6
	I	F
T		L
- ✗ 3.

6	G	T
	I	Q
2		L
- ✓ 4.

6	F	G
	I	T
2		L

Question ID : 264330154750

Option 1 ID : 264330606465

Option 2 ID : 264330606464

Option 3 ID : 264330606463

Option 4 ID : 264330606466

Status : Answered

Chosen Option : 4

Q.13 नीचे दिए गए कथनों और निष्कर्षों को ध्यानपूर्वक पढ़िए। आपको मानना है कि दिए गए कथन सत्य हैं चाहे वे समान्यतः ज्ञात तथ्यों से अलग प्रतीत होते हों। आपको निश्चय करना है कि कौन-सा/कौन-से निष्कर्ष तार्किक रूप से दिए गए कथनों के अनुसार है/हैं।

कथन: सभी पेड़, मोबाइल हैं। कुछ मोबाइल, छोटे हैं। सभी छोटे, चींटियां हैं।

निष्कर्ष I: कुछ पेड़, मोबाइल हैं।

निष्कर्ष II: कुछ चींटियां, छोटे हैं।

- Ans**
- 1. न तो निष्कर्ष (I) और न ही (II) कथनों के अनुसार है।
 - 2. दोनों निष्कर्ष (I) और (II) कथनों के अनुसार हैं।
 - 3. केवल निष्कर्ष (II) कथनों के अनुसार है।
 - 4. केवल निष्कर्ष (I) कथनों के अनुसार है।

Question ID : 264330155894

Option 1 ID : 264330610981

Option 2 ID : 264330610982

Option 3 ID : 264330610980

Option 4 ID : 264330610979

Status : Answered

Chosen Option : 3

Q.14 अक्षरों के उस संयोजन को चुनिए जिसे दी गई श्रृंखला के रिक्त स्थानों में क्रमिक रूप से रखने पर श्रृंखला पूरी हो जाएगी।

ZY_Z_Z__ZZ_Z

- Ans**
- 1. YYZYZ
 - 2. ZYYZZ
 - 3. YZYZZ
 - 4. ZYZYY

Question ID : 264330151643

Option 1 ID : 264330594200

Option 2 ID : 264330594199

Option 3 ID : 264330594202

Option 4 ID : 264330594201

Status : Answered

Chosen Option : 4

Q.15 दी गई श्रृंखला में प्रश्न चिह्न '?' के स्थान पर क्या आना चाहिए?

57 62 72 77 87 ?

- Ans**
- 1. 94
 - 2. 93
 - 3. 92
 - 4. 91

Question ID : 264330151549

Option 1 ID : 264330593826

Option 2 ID : 264330593825

Option 3 ID : 264330593824

Option 4 ID : 264330593823

Status : Answered

Chosen Option : 3

Q.16 यदि A का अर्थ -, E का अर्थ ×, D का अर्थ +, G का अर्थ = है, तो निम्नलिखित समीकरण में प्रश्न चिह्न (?) के स्थान पर क्या आएगा?
21 G 14 D 1 A 2 E 8 = ?

- Ans
- 1. 17
 - 2. 19
 - 3. 25
 - 4. 11

Question ID : 264330154681
Option 1 ID : 264330606188
Option 2 ID : 264330606189
Option 3 ID : 264330606190
Option 4 ID : 264330606187
Status : Answered
Chosen Option : 2

Q.17 उस शब्द-युग्म का चयन कीजिए जो नीचे दिए गए शब्दों के युग्म में व्यक्त किए गए समान संबंध का सबसे अच्छा निरूपण करता है।

(शब्दों को अर्थपूर्ण हिंदी शब्दों के रूप में माना जाना चाहिए और उन्हें शब्द में अक्षरों की संख्या/व्यंजन/स्वरों की संख्या के आधार पर एक दूसरे से संबंधित नहीं किया जाना चाहिए।)

जीवाणु : अपघटन

- Ans
- 1. एन्टिबायोटिक : इंजेक्शन
 - 2. ज्वालामुखी : विस्फोट
 - 3. ऑक्सीजन : उपचार
 - 4. खमीर : किण्वन

Question ID : 264330154635
Option 1 ID : 264330606004
Option 2 ID : 264330606003
Option 3 ID : 264330606006
Option 4 ID : 264330606005
Status : Answered
Chosen Option : 4

Q.18 दी गई श्रृंखला में प्रश्न चिह्न '?' के स्थान पर क्या आना चाहिए?

84 88 96 108 124 ?

- Ans
- 1. 134
 - 2. 144
 - 3. 124
 - 4. 154

Question ID : 264330151543
Option 1 ID : 264330593800
Option 2 ID : 264330593801
Option 3 ID : 264330593799
Option 4 ID : 264330593802
Status : Answered
Chosen Option : 2

Q.19 एक निश्चित तर्क के अनुसार 22, 198 से संबंधित है। समान तर्क के अनुसार, 41, 369 से संबंधित है। समान तर्क का अनुसरण करते हुए 54 निम्नलिखित में से किससे संबंधित है?

- Ans** ✓ 1. 486
✗ 2. 468
✗ 3. 286
✗ 4. 268

Question ID : 264330151606
Option 1 ID : 264330594051
Option 2 ID : 264330594053
Option 3 ID : 264330594052
Option 4 ID : 264330594054
Status : Answered
Chosen Option : 1

Q.20 एक निश्चित कूट भाषा में, 'QUALIFY' को 'PTZKHYF' लिखा जाता है और 'PANTHER' को 'OZMSGRE' लिखा जाता है। उस कूट भाषा में 'FORCEPS' को कैसे लिखा जाएगा?

- Ans** ✓ 1. ENQBDSP
✗ 2. DNPCDSQ
✗ 3. EMOCDRQ
✗ 4. DMQCERP

Question ID : 264330155829
Option 1 ID : 264330610721
Option 2 ID : 264330610719
Option 3 ID : 264330610722
Option 4 ID : 264330610720
Status : Answered
Chosen Option : 1

Section : General Awareness

Q.1 निम्नलिखित में से किस महिला गायिका को भारत रत्न से सम्मानित किया गया है?

- Ans** ✗ 1. उषा उथुप
✗ 2. आशा भोसले
✗ 3. वाणी जयराम
✓ 4. लता मंगेशकर

Question ID : 264330160975
Option 1 ID : 264330631233
Option 2 ID : 264330631231
Option 3 ID : 264330631234
Option 4 ID : 264330631232
Status : Answered
Chosen Option : 4

Q.2 कौन-सी प्रसिद्ध भारतीय नृत्यांगना राज्यसभा सदस्य के रूप में नामांकित होने वाली पहली महिला बनीं?

- Ans
- 1. सितारा देवी
 - 2. रुक्मिणी देवी अरुंडेल
 - 3. मृणालिनी साराभाई
 - 4. कमला कुमारी

Question ID : 264330155475
Option 1 ID : 264330609304
Option 2 ID : 264330609303
Option 3 ID : 264330609306
Option 4 ID : 264330609305
Status : Not Answered
Chosen Option : --

Q.3 भारत में लोकसभा के लिए पहला आम चुनाव कब हुआ था?

- Ans
- 1. 1950-51
 - 2. 1949-50
 - 3. 1948-49
 - 4. 1951-52

Question ID : 264330160863
Option 1 ID : 264330630785
Option 2 ID : 264330630784
Option 3 ID : 264330630783
Option 4 ID : 264330630786
Status : Answered
Chosen Option : 4

Q.4 'बक्सर का युद्ध' किस वर्ष हुआ था?

- Ans
- 1. 1769 ई.
 - 2. 1764 ई.
 - 3. 1761 ई.
 - 4. 1757 ई.

Question ID : 264330162322
Option 1 ID : 264330636618
Option 2 ID : 264330636616
Option 3 ID : 264330636617
Option 4 ID : 264330636615
Status : Answered
Chosen Option : 3

Q.5 गांधी जयंती के उत्सव को चिह्नित करने के लिए, _____ इसे अंतर्राष्ट्रीय अहिंसा दिवस के रूप में मनाता है।

- Ans
- 1. दक्षिण एशियाई क्षेत्रीय सहयोग संगठन
 - 2. ग्रुप ऑफ 20
 - 3. संयुक्त राष्ट्र
 - 4. ब्रिक्स राष्ट्र

Question ID : 264330160825
Option 1 ID : 264330630632
Option 2 ID : 264330630631
Option 3 ID : 264330630633
Option 4 ID : 264330630634
Status : Answered
Chosen Option : 3

Q.6 अस्थि मज्जा में पाई जाने वाली कौन-सी कोशिका शरीर के लिए मरम्मत प्रणाली के रूप में कार्य करती है?

- Ans
- 1. मूल कोशिकाएं (Stem cells)
 - 2. वसा कोशिकाएं (Fat Cells)
 - 3. अस्थि कोशिकाएं (Bone Cells)
 - 4. मांसपेशिय कोशिकाएं (Muscle cells)

Question ID : 264330161085
Option 1 ID : 264330631671
Option 2 ID : 264330631673
Option 3 ID : 264330631672
Option 4 ID : 264330631674
Status : Answered
Chosen Option : 3

Q.7 सिरपुर तीर्थ (Sirpur Shrine) निम्नलिखित में से किस राज्य में स्थित है?

- Ans
- 1. छत्तीसगढ़
 - 2. बिहार
 - 3. ओडिशा
 - 4. उत्तरप्रदेश

Question ID : 264330160756
Option 1 ID : 264330630355
Option 2 ID : 264330630356
Option 3 ID : 264330630357
Option 4 ID : 264330630358
Status : Not Answered
Chosen Option : --

Q.8 कारक लागत (Factor cost) को _____ नाम से भी जाना जाता है।

- Ans
- 1. निवेश लागत (input cost)
 - 2. पूर्व-कारखाना लागत (ex-factory cost)
 - 3. बाज़ार लागत (market cost)
 - 4. निर्गत लागत (output cost)

Question ID : 264330161458
Option 1 ID : 264330633159
Option 2 ID : 264330633162
Option 3 ID : 264330633161
Option 4 ID : 264330633160
Status : Not Answered
Chosen Option : --

Q.9 निम्नलिखित में से किस राज्य/केंद्र शासित प्रदेश ने आत्म सुरक्षा की भावना पैदा करने और गांवों और गांवों के आसपास के बुनियादी ढांचे की सुरक्षा सुनिश्चित करने के लिए ग्राम रक्षा गार्ड योजना (Village Defence Guards scheme) की शुरुआत की?

- Ans
- 1. उत्तरप्रदेश
 - 2. राजस्थान
 - 3. जम्मू और कश्मीर
 - 4. लद्दाख

Question ID : 264330161407
Option 1 ID : 264330632958
Option 2 ID : 264330632956
Option 3 ID : 264330632955
Option 4 ID : 264330632957
Status : Answered
Chosen Option : 3

Q.10 भारत ने 2023 वर्ल्ड टेस्ट चैंपियनशिप का फाइनल ऑस्ट्रेलिया के खिलाफ खेला। यह मैच कहाँ आयोजित किया गया था?

- Ans
- 1. दुबई
 - 2. सिडनी
 - 3. कोलकाता
 - 4. लंदन

Question ID : 264330161144
Option 1 ID : 264330631910
Option 2 ID : 264330631908
Option 3 ID : 264330631909
Option 4 ID : 264330631907
Status : Answered
Chosen Option : 4

Q.11 मार्च 2023 में डी गुकेश को प्लेयर ऑफ द ईयर पुरस्कार से सम्मानित किया गया। वह कौन-सा खेल खेलते हैं?

- Ans
- 1. बैडमिंटन
 - 2. मुक्केबाज़ी
 - 3. सूकर
 - 4. शतरंज

Question ID : 264330158357
Option 1 ID : 264330620787
Option 2 ID : 264330620790
Option 3 ID : 264330620788
Option 4 ID : 264330620789
Status : Answered
Chosen Option : 3

Q.12 2023 इंटरकांटेनेटल कप फुटबॉल चैंपियनशिप (Intercontinental Cup football championship) का फाइनल निम्नलिखित में से किस राज्य में आयोजित किया गया था?

- Ans
- 1. तेलंगाना
 - 2. कर्नाटक
 - 3. ओडिशा
 - 4. महाराष्ट्र

Question ID : 264330161151
Option 1 ID : 264330631938
Option 2 ID : 264330631935
Option 3 ID : 264330631937
Option 4 ID : 264330631936
Status : Not Answered
Chosen Option : --

Q.13 भारतीय संविधान का कौन-सा अनुच्छेद यह आदेश देता है कि राज्य को कलात्मक या ऐतिहासिक रुचि के प्रत्येक स्मारक या स्थान की रक्षा करनी चाहिए?

- Ans
- 1. अनुच्छेद 50
 - 2. अनुच्छेद 39A
 - 3. अनुच्छेद 48A
 - 4. अनुच्छेद 49

Question ID : 264330162254
Option 1 ID : 264330636344
Option 2 ID : 264330636346
Option 3 ID : 264330636345
Option 4 ID : 264330636343
Status : Not Answered
Chosen Option : --

Q.14 निम्नलिखित में से कौन-सा भारत में माइक्रोफाइनेंस संस्थान (MFI) का एक उदाहरण है?

- Ans
- 1. आईसीआईसीआई बैंक (ICICI Bank)
 - 2. बंधन बैंक (Bandhan Bank)
 - 3. भारतीय स्टेट बैंक (SBI)
 - 4. एचडीएफसी बैंक (HDFC Bank)

Question ID : 264330157296
Option 1 ID : 264330616548
Option 2 ID : 264330616549
Option 3 ID : 264330616547
Option 4 ID : 264330616550
Status : Answered
Chosen Option : 2

Q.15 निम्नलिखित में से कौन-सी महात्मा गांधी की आत्मकथा है?

- Ans
- 1. माई ट्रुथ (My Truth)
 - 2. माई कंट्री माई लाइफ (My Country My Life)
 - 3. मैटर्स ऑफ डिस्क्रिशन (Matters of Discretion)
 - 4. द स्टोरी ऑफ माई एक्सपेरिमेंट्स विद ट्रुथ (The Story of My Experiments with Truth)

Question ID : 264330161756
Option 1 ID : 264330634354
Option 2 ID : 264330634352
Option 3 ID : 264330634353
Option 4 ID : 264330634351
Status : Answered
Chosen Option : 4

Q.16 भारत की जनगणना 2011 के अनुसार, दूसरे सबसे अधिक लिंगानुपात वाला राज्य कौन-सा है?

- Ans 1. तमिलनाडु
 2. बिहार
 3. केरल
 4. असम

Question ID : 264330160159
Option 1 ID : 264330627976
Option 2 ID : 264330627978
Option 3 ID : 264330627975
Option 4 ID : 264330627977
Status : Answered
Chosen Option : 4

Q.17 निम्नलिखित में से कौन-सी गायिका आंध्र प्रदेश से है?

- Ans 1. ऊषा उत्सुप
 2. एस. जानकी
 3. अलका याग्निक
 4. आशा भोसले

Question ID : 264330162234
Option 1 ID : 264330636264
Option 2 ID : 264330636265
Option 3 ID : 264330636266
Option 4 ID : 264330636263
Status : Not Answered
Chosen Option : --

Q.18 निम्नलिखित में से कौन-सा राजस्थान का प्रसिद्ध लोक नृत्य है?

- Ans 1. पाला जात्रा
 2. चेंग लो
 3. दसकठिया
 4. कालबेलिया

Question ID : 264330159058
Option 1 ID : 264330623593
Option 2 ID : 264330623591
Option 3 ID : 264330623594
Option 4 ID : 264330623592
Status : Answered
Chosen Option : 4

Q.19 निम्नलिखित में से मुंशी प्रेमचंद द्वारा लिखित एक प्रसिद्ध उपन्यास कौन-सा है?

Ans 1. गोदान

2. गुनाहों का देवता

3. कितने पाकिस्तान

4. राग दरबारी

Question ID : 264330155502

Option 1 ID : 264330609414

Option 2 ID : 264330609413

Option 3 ID : 264330609412

Option 4 ID : 264330609411

Status : Answered

Chosen Option : 1

Q.20 भारत का निम्नलिखित में से कौन-सा राज्य दक्षिण पश्चिम मानसून से वर्षा प्राप्त करने वाला पहला राज्य है ?

Ans 1. तेलंगाना

2. राजस्थान

3. हिमाचल प्रदेश

4. केरल

Question ID : 264330161518

Option 1 ID : 264330633402

Option 2 ID : 264330633399

Option 3 ID : 264330633401

Option 4 ID : 264330633400

Status : Answered

Chosen Option : 4

Q.21 लंदन में आयोजित दूसरे गोलमेज सम्मेलन में कांग्रेस का नेतृत्व किसने किया था?

Ans 1. सरोजिनी नायडू

2. एनी बेसेंट

3. महात्मा गांधी

4. जवाहर लाल नेहरू

Question ID : 264330162335

Option 1 ID : 264330636669

Option 2 ID : 264330636670

Option 3 ID : 264330636667

Option 4 ID : 264330636668

Status : Answered

Chosen Option : 3

Q.22 निम्नलिखित में से कौन-सा कारक भारत की जलवायु को प्रभावित नहीं करता है?

- Ans
- 1. पवन
 - 2. देशान्तर
 - 3. अक्षांश
 - 4. ऊंचाई

Question ID : 264330157828
Option 1 ID : 264330618673
Option 2 ID : 264330618674
Option 3 ID : 264330618672
Option 4 ID : 264330618671
Status : Answered
Chosen Option : 1

Q.23 अलार्मेल वल्ली (Alarmel Valli) एक _____ नृत्यांगना है।

- Ans
- 1. कुचिपुड़ी
 - 2. ओडिसी
 - 3. भरतनाट्यम
 - 4. कथक

Question ID : 264330159068
Option 1 ID : 264330623632
Option 2 ID : 264330623634
Option 3 ID : 264330623631
Option 4 ID : 264330623633
Status : Not Answered
Chosen Option : --

Q.24 कपड़ा मंत्रालय 2022-23 के अनुसार, कौन-सा राज्य कपास का दूसरा सबसे बड़ा उत्पादक है?

- Ans
- 1. बिहार
 - 2. गुजरात
 - 3. मध्यप्रदेश
 - 4. महाराष्ट्र

Question ID : 264330160142
Option 1 ID : 264330627909
Option 2 ID : 264330627908
Option 3 ID : 264330627910
Option 4 ID : 264330627907
Status : Not Answered
Chosen Option : --

Q.25 रासायनिक उद्योग में कच्चे माल के रूप में व्यापक रूप से उपयोग किए जाने वाले कैल्शियम हाइड्रॉक्साइड (calcium hydroxide) के संतृप्त विलयन का सामान्य नाम क्या है?

- Ans
- 1. जला हुआ चूना (Burnt Lime)
 - 2. बुझा हुआ चूना (Slaked lime)
 - 3. चूना पत्थर (Limestone)
 - 4. कैलोमेल (Calomel)

Question ID : 264330161053
Option 1 ID : 264330631545
Option 2 ID : 264330631544
Option 3 ID : 264330631546
Option 4 ID : 264330631543
Status : Answered
Chosen Option : 2

Section : English Language and Comprehension

Q.1 Select the INCORRECTLY spelt word.

- Ans
- 1. Magnificence
 - 2. Gesture
 - 3. Abhorrent
 - 4. Jugglary

Question ID : 264330152785
Option 1 ID : 264330598733
Option 2 ID : 264330598731
Option 3 ID : 264330598734
Option 4 ID : 264330598732
Status : Answered
Chosen Option : 3

Q.2 Select the most appropriate idiom to fill in the blank.
Naina has six children, and I always _____ with their names.

- Ans
- 1. get rid of
 - 2. get cold feet
 - 3. get mixed up
 - 4. get away clean

Question ID : 264330153100
Option 1 ID : 264330599966
Option 2 ID : 264330599964
Option 3 ID : 264330599963
Option 4 ID : 264330599965
Status : Answered
Chosen Option : 3

Q.3 Select the most appropriate option to fill in the blank.
The Nile is the _____ river of the world.

- Ans
- 1. long
 - 2. longer
 - 3. more longer
 - 4. longest

Question ID : 264330153198
Option 1 ID : 264330600351
Option 2 ID : 264330600352
Option 3 ID : 264330600354
Option 4 ID : 264330600353
Status : Answered
Chosen Option : 4

Q.4 Parts of the following sentence have been given as options. Select the option that contains an error.
The blue is a beautiful colour.

- Ans
- 1. beautiful colour
 - 2. The blue
 - 3. is
 - 4. a

Question ID : 264330152790
Option 1 ID : 264330598754
Option 2 ID : 264330598751
Option 3 ID : 264330598752
Option 4 ID : 264330598753
Status : Answered
Chosen Option : 2

Q.5 Select the most appropriate option to fill in the blank.
He is a smug and very _____ person who thinks only about himself.

- Ans
- 1. diffident
 - 2. arsonist
 - 3. humble
 - 4. egoistic

Question ID : 264330153582
Option 1 ID : 264330601824
Option 2 ID : 264330601826
Option 3 ID : 264330601823
Option 4 ID : 264330601825
Status : Answered
Chosen Option : 2

Q.6 Select the most appropriate segment that can substitute the bracketed word in the following sentence.
The bridge that (connecting) the two valleys across the Brahmaputra river has recently been constructed in Arunachal Pradesh.

- Ans
- 1. will be connecting
 - 2. will be connected
 - 3. connects
 - 4. had connected

Question ID : 264330152631
Option 1 ID : 264330598127
Option 2 ID : 264330598128
Option 3 ID : 264330598129
Option 4 ID : 264330598130
Status : Answered
Chosen Option : 3

Q.7 Select the INCORRECTLY spelt word.

- Ans
- 1. Apparent
 - 2. Humorous
 - 3. Definite
 - 4. Necassery

Question ID : 264330153107
Option 1 ID : 264330599991
Option 2 ID : 264330599994
Option 3 ID : 264330599993
Option 4 ID : 264330599992
Status : Answered
Chosen Option : 4

Q.8 Parts of the following sentence have been given as options. Select the option that contains an error.
You shall repented tomorrow for your misdeeds.

- Ans
- 1. shall repented
 - 2. for your misdeeds
 - 3. tomorrow
 - 4. You

Question ID : 264330152815
Option 1 ID : 264330598852
Option 2 ID : 264330598854
Option 3 ID : 264330598853
Option 4 ID : 264330598851
Status : Answered
Chosen Option : 1

Q.9 Select the most appropriate option to fill in the blank.
I _____ to many countries to find the source of true happiness.

- Ans** 1. travelled
 2. travelld
 3. triveled
 4. travalled

Question ID : 264330153304
Option 1 ID : 264330600772
Option 2 ID : 264330600774
Option 3 ID : 264330600773
Option 4 ID : 264330600771
Status : Answered
Chosen Option : 1

Q.10 Select the most appropriate option to fill in the blank.

I know that I can count on my best friend to be by my side through ____ and thin.

- Ans** 1. fat
 2. thick
 3. tough
 4. heavy

Question ID : 264330151861
Option 1 ID : 264330595065
Option 2 ID : 264330595064
Option 3 ID : 264330595063
Option 4 ID : 264330595066
Status : Answered
Chosen Option : 2

Q.11 Select the most appropriate meaning of the underlined idiom in the following sentence.

Irrespective of the chaos in the classroom, our class teacher stays cool as a cucumber.

- Ans** 1. Scolds all the students in the classroom
 2. Behaves like a vegetable
 3. Develops a fever
 4. Stays calm and composed

Question ID : 264330153050
Option 1 ID : 264330599770
Option 2 ID : 264330599767
Option 3 ID : 264330599769
Option 4 ID : 264330599768
Status : Answered
Chosen Option : 4

Q.12 Select the word segment which substitutes the bracketed word correctly and completes the sentence meaningfully.
I (am here) since 1981.

- Ans
- 1. had been here
 - 2. has been here
 - 3. was here
 - 4. have been here

Question ID : 264330152566
Option 1 ID : 264330597867
Option 2 ID : 264330597870
Option 3 ID : 264330597868
Option 4 ID : 264330597869
Status : Answered
Chosen Option : 4

Q.13 Select the option that can be used as a one-word substitute for the underlined group of words.

Sometimes we have to accept replacing something with something else, if we want to move forward.

- Ans
- 1. change
 - 2. evaluation
 - 3. invasion
 - 4. invention

Question ID : 264330153492
Option 1 ID : 264330601486
Option 2 ID : 264330601485
Option 3 ID : 264330601483
Option 4 ID : 264330601484
Status : Answered
Chosen Option : 4

Q.14 Select the most appropriate option that can substitute the underlined segment in the given sentence.

She think Alex is abandoning her.

- Ans
- 1. thinks
 - 2. was to think
 - 3. was thinking
 - 4. thought

Question ID : 264330153487
Option 1 ID : 264330601466
Option 2 ID : 264330601463
Option 3 ID : 264330601464
Option 4 ID : 264330601465
Status : Answered
Chosen Option : 1

Q.15 Select the most appropriate idiom to fill in the blank.
It's risky to invest all your savings in one company; it's like _____.

- Ans** 1. putting all your eggs in one basket
 2. biting the bullet
 3. breaking a leg
 4. going down in flames

Question ID : 264330155216
Option 1 ID : 264330608325
Option 2 ID : 264330608326
Option 3 ID : 264330608323
Option 4 ID : 264330608324
Status : Answered
Chosen Option : 4

Q.16 Select the most appropriate synonym of the given word.
Hazard

- Ans** 1. Marvel
 2. Ardent
 3. Accident
 4. Miracle

Question ID : 264330151822
Option 1 ID : 264330594917
Option 2 ID : 264330594918
Option 3 ID : 264330594915
Option 4 ID : 264330594916
Status : Answered
Chosen Option : 4

Q.17 Select the most appropriate option to fill in the blank.
When it comes to planning her wedding, Maria wants _____.

- Ans** 1. the whole nine yards
 2. down for the count
 3. the whole fifteen miles
 4. a black sheep

Question ID : 264330151884
Option 1 ID : 264330595157
Option 2 ID : 264330595158
Option 3 ID : 264330595156
Option 4 ID : 264330595155
Status : Answered
Chosen Option : 4

Q.18 Parts of the following sentence have been given as options. Select the option that contains an error.

Tuntun and her friends dance beautiful.

- Ans
- 1. dance
 - 2. beautiful
 - 3. and her friends
 - 4. Tuntun

Question ID : 264330155228
Option 1 ID : 264330608369
Option 2 ID : 264330608370
Option 3 ID : 264330608368
Option 4 ID : 264330608367
Status : Answered
Chosen Option : 2

Q.19 Select the most appropriate ANTONYM of the given word.
Dishevelled

- Ans
- 1. Rigid
 - 2. Tainted
 - 3. Assertive
 - 4. Tidy

Question ID : 264330152720
Option 1 ID : 264330598479
Option 2 ID : 264330598481
Option 3 ID : 264330598480
Option 4 ID : 264330598482
Status : Answered
Chosen Option : 2

Q.20 Select the option that can be used as a one-word substitute for the given group of words.

A small shop that sells fashionable clothes

- Ans
- 1. Couture
 - 2. Store
 - 3. Boutique
 - 4. Tailoring

Question ID : 264330152587
Option 1 ID : 264330597953
Option 2 ID : 264330597951
Option 3 ID : 264330597952
Option 4 ID : 264330597954
Status : Answered
Chosen Option : 2

Comprehension:

In the following passage, some words have been deleted. Read the passage carefully and select the most appropriate option to fill in each blank.

I do not know how the party ended. I do not want to know. I went (1)___ upstairs, and undressed and (2)___ into bed, and lay there in the burning dark while the last guest gurgled in the hall below about the wonderful evening she had spent. I lay there (3)___ the front door shut after her, and Lavinia's steps came up the stairs and passed the door to the guest room beyond. And then after a couple of centuries (4)___, the clock struck three and I (5)___ to sleep.

SubQuestion No : 21

Q.21 Select the most appropriate option to fill in blank no. 1.

- Ans 1. around
 2. over
 3. straight
 4. through

Question ID : 264330151843

Option 1 ID : 264330594995

Option 2 ID : 264330594996

Option 3 ID : 264330594997

Option 4 ID : 264330594998

Status : Answered

Chosen Option : 4

Comprehension:

In the following passage, some words have been deleted. Read the passage carefully and select the most appropriate option to fill in each blank.

I do not know how the party ended. I do not want to know. I went (1)___ upstairs, and undressed and (2)___ into bed, and lay there in the burning dark while the last guest gurgled in the hall below about the wonderful evening she had spent. I lay there (3)___ the front door shut after her, and Lavinia's steps came up the stairs and passed the door to the guest room beyond. And then after a couple of centuries (4)___, the clock struck three and I (5)___ to sleep.

SubQuestion No : 22

Q.22 Select the most appropriate option to fill in blank no. 2.

- Ans 1. peeped
 2. gnawed
 3. crawled
 4. lurched

Question ID : 264330151844

Option 1 ID : 264330594999

Option 2 ID : 264330595001

Option 3 ID : 264330595002

Option 4 ID : 264330595000

Status : Answered

Chosen Option : 3

Comprehension:

In the following passage, some words have been deleted. Read the passage carefully and select the most appropriate option to fill in each blank.

I do not know how the party ended. I do not want to know. I went (1)___ upstairs, and undressed and (2)___ into bed, and lay there in the burning dark while the last guest gurgled in the hall below about the wonderful evening she had spent. I lay there (3)___ the front door shut after her, and Lavinia's steps came up the stairs and passed the door to the guest room beyond. And then after a couple of centuries (4)___, the clock struck three and I (5)___ to sleep.

SubQuestion No : 23

Q.23 Select the most appropriate option to fill in the blank no. 3.

- Ans 1. while
 2. down
 3. still
 4. toward

Question ID : 264330151845

Option 1 ID : 264330595003

Option 2 ID : 264330595006

Option 3 ID : 264330595004

Option 4 ID : 264330595005

Status : Answered

Chosen Option : 1

Comprehension:

In the following passage, some words have been deleted. Read the passage carefully and select the most appropriate option to fill in each blank.

I do not know how the party ended. I do not want to know. I went (1)___ upstairs, and undressed and (2)___ into bed, and lay there in the burning dark while the last guest gurgled in the hall below about the wonderful evening she had spent. I lay there (3)___ the front door shut after her, and Lavinia's steps came up the stairs and passed the door to the guest room beyond. And then after a couple of centuries (4)___, the clock struck three and I (5)___ to sleep.

SubQuestion No : 24

Q.24 Select the most appropriate option to fill in blank no. 4.

- Ans 1. persisted
 2. crossed
 3. elapsed
 4. eroded

Question ID : 264330151846

Option 1 ID : 264330595007

Option 2 ID : 264330595008

Option 3 ID : 264330595009

Option 4 ID : 264330595010

Status : Answered

Chosen Option : 3

Comprehension:

In the following passage, some words have been deleted. Read the passage carefully and select the most appropriate option to fill in each blank.

I do not know how the party ended. I do not want to know. I went (1)___ upstairs, and undressed and (2)___ into bed, and lay there in the burning dark while the last guest gurgled in the hall below about the wonderful evening she had spent. I lay there (3)___ the front door shut after her, and Lavinia's steps came up the stairs and passed the door to the guest room beyond. And then after a couple of centuries (4)___, the clock struck three and I (5)___ to sleep.

SubQuestion No : 25

Q.25 Select the most appropriate option to fill in blank no. 5.

- Ans
- 1. put off
 - 2. called off
 - 3. dozed off
 - 4. took off

Question ID : 264330151847

Option 1 ID : 264330595012

Option 2 ID : 264330595011

Option 3 ID : 264330595014

Option 4 ID : 264330595013

Status : Answered

Chosen Option : 1

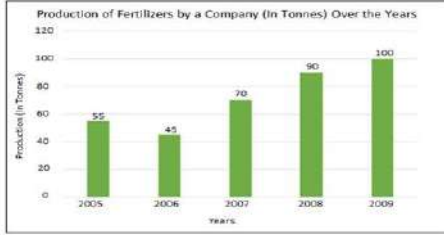
KD Job Updates

Multi Tasking Non Technical Staff and Havaladar CBIC and CBN Examination 2023

Roll Number	KD Job Updates
Candidate Name	KD Job Updates
Venue Name	iON Digital Zone Ganga Nagar Meerut
Exam Date	12/09/2023
Exam Time	9:00 AM - 11:00 AM
Subject	MTS Non Tech Havaladar CBIC and CBN Examination 2023

Section : Numerical and Mathematical Ability

Q.1 नीचे दिए गए दंड आलेख में कुछ वर्षों में एक कंपनी (टन में) द्वारा उर्वरकों के उत्पादन को दर्शाया गया है। दंड आलेख का अध्ययन कीजिए और उसके आधार पर प्रश्न का उत्तर दीजिए।



संदर्भ: Production of fertilizers by a company (in tonnes) over the years = कुछ वर्षों में एक कंपनी द्वारा उर्वरकों का उत्पादन (टन में), Production (in tonnes) = उत्पादन (टन में), Years - वर्ष

2006 की तुलना में 2009 में उर्वरकों के उत्पादन में प्रतिशत वृद्धि (निकटतम पूर्णांक तक सन्निकटित) कितनी थी?

- Ans
- ✓ 1. 122%
 - ✗ 2. 118%
 - ✗ 3. 120%
 - ✗ 4. 124%

Question ID : 264330153780

Option 1 ID : 264330602586

Option 2 ID : 264330602583

Option 3 ID : 264330602585

Option 4 ID : 264330602584

Status : Answered

Chosen Option : 1

Q.2 निम्नलिखित तालिका में पिछले 5 वर्षों के दौरान पांच परिवारों का वार्षिक व्यय (₹ हजार में) दर्शाया गया है। दी गई तालिका का अध्ययन कीजिए और नीचे दिए गए प्रश्न का उत्तर दीजिए।

वर्ष → परिवार ↓	2017	2018	2019	2020	2021
F ₁	35	50	55	60	45
F ₂	45	35	60	55	40
F ₃	53	40	45	65	50
F ₄	40	30	35	50	45
F ₅	35	45	55	50	45

किस वर्ष में परिवार F₄ का वार्षिक व्यय 2017 से 2021 तक परिवार F₄ के औसत व्यय के बराबर था?

- Ans**
- ✓ 1. 2017
 - ✗ 2. 2021
 - ✗ 3. 2020
 - ✗ 4. 2019

Question ID : 264330157348

Option 1 ID : 264330616756

Option 2 ID : 264330616758

Option 3 ID : 264330616757

Option 4 ID : 264330616755

Status : Answered

Chosen Option : 1

Q.3 $\frac{9(3-5)-5 \text{ of } 4 \div 10}{-3 \times 5 - 2 \times 4 \div 2}$ का मान ज्ञात कीजिए।

- Ans**
- ✗ 1. $\frac{19}{20}$
 - ✗ 2. $\frac{18}{19}$
 - ✗ 3. $\frac{13}{14}$
 - ✓ 4. $\frac{20}{19}$

Question ID : 264330154036

Option 1 ID : 264330603608

Option 2 ID : 264330603609

Option 3 ID : 264330603607

Option 4 ID : 264330603610

Status : Answered

Chosen Option : 4

Q.4 दो संख्याओं का महत्तम समापवर्तक 12 है। निम्नलिखित में से कौन-सा उनका लघुत्तम समापवर्तक कभी नहीं हो सकता है?

- Ans
- ✓ 1. 74
 - ✗ 2. 24
 - ✗ 3. 60
 - ✗ 4. 48

Question ID : 264330156091
Option 1 ID : 264330611765
Option 2 ID : 264330611763
Option 3 ID : 264330611766
Option 4 ID : 264330611764
Status : Answered
Chosen Option : 1

Q.5 यदि एक खोखले गोले को, जिसके बाह्य और आंतरिक व्यास क्रमशः 6 cm और 4 cm हैं, को पिघलाकर 8 cm आधार व्यास का एक शंकु बनाया जाता है, तो इस शंकु की ऊँचाई कितनी है?

- Ans
- ✗ 1. $3\frac{1}{4}$ cm
 - ✗ 2. $5\frac{1}{4}$ cm
 - ✓ 3. $4\frac{3}{4}$ cm
 - ✗ 4. $2\frac{3}{4}$ cm

Question ID : 264330154110
Option 1 ID : 264330603903
Option 2 ID : 264330603905
Option 3 ID : 264330603906
Option 4 ID : 264330603904
Status : Answered
Chosen Option : 3

Q.6 हेमा ने 3 वर्ष के लिए (वार्षिक रूप से संयोजित) चक्रवृद्धि ब्याज की दर से ₹1,728 का निवेश किया। एक निर्दिष्ट अवधि के बाद उसे ₹4,096 मिले। वार्षिक ब्याज की दर ज्ञात कीजिए।

- Ans
- ✗ 1. $30\frac{1}{2}\%$
 - ✓ 2. $33\frac{1}{3}\%$
 - ✗ 3. $33\frac{1}{2}\%$
 - ✗ 4. $30\frac{1}{3}\%$

Question ID : 264330155749
Option 1 ID : 264330610402
Option 2 ID : 264330610399
Option 3 ID : 264330610401
Option 4 ID : 264330610400
Status : Answered
Chosen Option : 2

Q.7 अनिल बीना को 20% के लाभ पर एक कार बेचता है। बीना इसे करण को 25% के लाभ पर बेच देती है। यदि करण इसके लिए ₹2,25,000 का भुगतान करता है, तो अनिल के लिए कार का क्रय मूल्य ज्ञात कीजिए।

- Ans**
- 1. ₹1,75,000
 - 2. ₹1,50,000
 - 3. ₹1,25,000
 - 4. ₹2,00,000

Question ID : 264330156105
Option 1 ID : 264330611820
Option 2 ID : 264330611821
Option 3 ID : 264330611822
Option 4 ID : 264330611819
Status : Answered
Chosen Option : 2

Q.8 राम ने ₹65,500 में एक टीवी खरीदा और उसे ₹ 89,080 में बेच दिया। उसे टीवी पर कितने प्रतिशत का लाभ हुआ?

- Ans**
- 1. 36%
 - 2. 40%
 - 3. 42%
 - 4. 34%

Question ID : 264330156180
Option 1 ID : 264330612120
Option 2 ID : 264330612121
Option 3 ID : 264330612122
Option 4 ID : 264330612119
Status : Answered
Chosen Option : 1

Q.9 एक व्यक्ति की मासिक आय ₹27,000 थी और उसका मासिक व्यय ₹18,000 था। अगले वर्ष उसकी आय में 28% की वृद्धि होती है और उनके व्यय में 14% की वृद्धि होती है। उसकी बचत में प्रतिशत वृद्धि ज्ञात कीजिए।

- Ans**
- 1. 51.5%
 - 2. 61.5%
 - 3. 56%
 - 4. 50.5%

Question ID : 264330157324
Option 1 ID : 264330616662
Option 2 ID : 264330616661
Option 3 ID : 264330616659
Option 4 ID : 264330616660
Status : Not Answered
Chosen Option : --

Q.10

Find the diameter of the sphere whose volume is $381\frac{6}{7} \text{ m}^3$.

- Ans
- 1. 7 m
 - 2. 9 m
 - 3. 8 m
 - 4. 18 m

Question ID : 264330156081

Option 1 ID : 264330611726

Option 2 ID : 264330611723

Option 3 ID : 264330611725

Option 4 ID : 264330611724

Status : Answered

Chosen Option : 2

Q.11

कक्षा में लड़कों की औसत आयु 16 वर्ष थी। जब 13 वर्ष औसत आयु वाले 4 लड़कों को कक्षा में प्रवेश दिया गया, तो कक्षा की औसत आयु में 6 माह की कमी आ गई। कक्षा में शुरूआत में कितने लड़के थे?

- Ans
- 1. 20
 - 2. 25
 - 3. 18
 - 4. 22

Question ID : 264330155989

Option 1 ID : 264330611358

Option 2 ID : 264330611356

Option 3 ID : 264330611357

Option 4 ID : 264330611355

Status : Answered

Chosen Option : 1

Q.12

एक वस्तु की पतन की ऊँचाई समय के वर्ग के अनुक्रमानुपाती है। वस्तु 4 सेकंड में 80 cm नीचे गिरती है, तो 8 सेकंड में वस्तु कितनी ऊँचाई (cm में) से गिरेगी?

- Ans
- 1. 320
 - 2. 360
 - 3. 480
 - 4. 420

Question ID : 264330153848

Option 1 ID : 264330602855

Option 2 ID : 264330602856

Option 3 ID : 264330602858

Option 4 ID : 264330602857

Status : Not Answered

Chosen Option : --

Q.13 एक पुलिसकर्मी 600 m की दूरी से एक चोर को देखता है। चोर 20 km/h की चाल से दौड़ना शुरू करता है और पुलिसकर्मी 25 km/h की चाल से दौड़ते हुए उसका पीछा करता है। 6 मिनट बाद उनके बीच की दूरी (मीटर में) ज्ञात कीजिए।

- Ans**
- 1. 200
 - 2. 300
 - 3. 100
 - 4. 50

Question ID : 264330153853

Option 1 ID : 264330602877

Option 2 ID : 264330602875

Option 3 ID : 264330602878

Option 4 ID : 264330602876

Status : Answered

Chosen Option : 3

Q.14 एक स्कूल में दसवीं कक्षा के छात्रों की औसत ऊंचाई 100 cm है। लड़कों की औसत ऊंचाई 118 cm है, जबकि लड़कियों की औसत ऊंचाई 95 cm है। यदि कक्षा में 20 लड़के हैं तो लड़कियों की संख्या कितनी है?

- Ans**
- 1. 72
 - 2. 63
 - 3. 36
 - 4. 54

Question ID : 264330155694

Option 1 ID : 264330610182

Option 2 ID : 264330610181

Option 3 ID : 264330610179

Option 4 ID : 264330610180

Status : Answered

Chosen Option : 1

Q.15 100 श्रमिक प्रतिदिन 8 घंटे काम करके 2000 मीटर लंबी नहर 25 दिनों में खोद सकते हैं। ऐसी ही 2800 मीटर लंबी एक नहर को प्रतिदिन 5 घंटे काम करके 32 दिनों में खोदने के लिए आवश्यक श्रमिकों की संख्या ज्ञात कीजिए।

- Ans**
- 1. 175
 - 2. 170
 - 3. 165
 - 4. 180

Question ID : 264330155977

Option 1 ID : 264330611309

Option 2 ID : 264330611308

Option 3 ID : 264330611307

Option 4 ID : 264330611310

Status : Answered

Chosen Option : 1

Q.16 एक छात्रावास में 75 छात्र हैं। नए दाखिले के कारण, 15 नए छात्र मेस में शामिल हो गए, और मेस के दैनिक खर्च में ₹240 की वृद्धि हो गई, जबकि प्रति छात्र औसत खर्च में ₹5 की कमी आ गई। मेस का मूल व्यय (₹ में) क्या था?

- Ans
- 1. 4,350
 - 2. 3,540
 - 3. 4,530
 - 4. 3,450

Question ID : 264330153758
Option 1 ID : 264330602497
Option 2 ID : 264330602496
Option 3 ID : 264330602498
Option 4 ID : 264330602495
Status : Not Answered
Chosen Option : --

Q.17 समान चाल वाली दो रेलगाड़ियां विपरीत दिशाओं में चल रही हैं। यदि प्रत्येक रेलगाड़ी की लंबाई 120 मीटर है और वे एक-दूसरे को 8 सेकंड में पार करती हैं, तो प्रत्येक रेलगाड़ी की चाल (km/h में) क्या है?

- Ans
- 1. 45
 - 2. 50
 - 3. 60
 - 4. 54

Question ID : 264330156114
Option 1 ID : 264330611856
Option 2 ID : 264330611858
Option 3 ID : 264330611855
Option 4 ID : 264330611857
Status : Answered
Chosen Option : 4

Q.18 A किसी काम को पूरा करने में B से दोगुना कुशल है, और वे दोनों एक साथ मिलकर उस काम को 20 दिनों में पूरा कर सकते हैं। A को अकेले काम को पूरा करने में कितने दिन का समय लगेगा?

- Ans
- 1. 34 दिन
 - 2. 30 दिन
 - 3. 28 दिन
 - 4. 32 दिन

Question ID : 264330156278
Option 1 ID : 264330612514
Option 2 ID : 264330612512
Option 3 ID : 264330612511
Option 4 ID : 264330612513
Status : Answered
Chosen Option : 2

Q.19 दो संख्याओं का योग उनके अंतर के नौ गुना के बराबर है। संख्याओं का अनुपात कितना है?

- Ans 1. 5 : 4
 2. 9 : 5
 3. 3 : 4
 4. 3 : 7

Question ID : 264330154048
Option 1 ID : 264330603655
Option 2 ID : 264330603656
Option 3 ID : 264330603658
Option 4 ID : 264330603657
Status : Answered
Chosen Option : 1

Q.20 किसी धनराशि पर साधारण ब्याज मूलधन का चार गुना है। वार्षिक दर प्रतिशत और वर्षों में समय बराबर है। वार्षिक प्रतिशत दर ज्ञात कीजिए।

- Ans 1. 10%
 2. 12%
 3. 15%
 4. 20%

Question ID : 264330156003
Option 1 ID : 264330611412
Option 2 ID : 264330611414
Option 3 ID : 264330611411
Option 4 ID : 264330611413
Status : Answered
Chosen Option : 4

Section : Reasoning Ability and Problem Solving

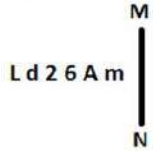
Q.1 उस सही विकल्प को चुनिए, जिसे दी गई श्रृंखला के रिक्त स्थानों में इसी क्रम में रखने पर श्रृंखला तार्किक रूप से पूरी हो जाएगी।

ZA _ J _ B _ BK DAB _ _ ABM HA _ N

- Ans 1. CHBNK
 2. BALFB
 3. BALPC
 4. FCBPL

Question ID : 264330154720
Option 1 ID : 264330606345
Option 2 ID : 264330606343
Option 3 ID : 264330606344
Option 4 ID : 264330606346
Status : Not Answered
Chosen Option : --

Q.2 दी गई आकृति के उस सही दर्पण प्रतिबिंब को चुनिए, जो नीचे दर्शाए गए अनुसार दर्पण को MN पर रखने पर बनेगा।



- Ans
- 1. **w V @ S b J**
 - 2. **m A 6 S b L**
 - 3. **m A @ S b J**
 - 4. **m A @ d 2 J**

Question ID : 264330151514

Option 1 ID : 264330593683

Option 2 ID : 264330593686

Option 3 ID : 264330593685

Option 4 ID : 264330593684

Status : Answered

Chosen Option : 3

Q.3 अंग्रेजी वर्णमाला क्रम के आधार पर MEOP, KCMN से एक निश्चित प्रकार से संबंधित है। उसी प्रकार, LTDG, JRBE से संबंधित है। समान तर्क का अनुसरण करते हुए, UNTF निम्नलिखित में से किससे संबंधित है?

- Ans
- 1. SMRE
 - 2. VPUH
 - 3. SLRD
 - 4. TOSG

Question ID : 264330151681

Option 1 ID : 264330594352

Option 2 ID : 264330594351

Option 3 ID : 264330594353

Option 4 ID : 264330594354

Status : Answered

Chosen Option : 3

Q.4 यदि 12 दिसंबर 2009 को शनिवार है, तो 16 दिसंबर 2014 को सप्ताह का कौन-सा दिन होगा?

- Ans
- 1. बुधवार
 - 2. गुरुवार
 - 3. शुक्रवार
 - 4. मंगलवार

Question ID : 264330154339

Option 1 ID : 264330604821

Option 2 ID : 264330604822

Option 3 ID : 264330604819

Option 4 ID : 264330604820

Status : Answered

Chosen Option : 4

Q.5 यदि A का अर्थ -, G का अर्थ ×, D का अर्थ +, E का अर्थ = है, तो निम्नलिखित समीकरण में प्रश्न चिह्न (?) के स्थान पर क्या आएगा?
18 E 27 D 3 A 2 G 5 = ?

- Ans
- 1. 31
 - 2. 17
 - 3. 43
 - 4. 29

Question ID : 264330154684
Option 1 ID : 264330606201
Option 2 ID : 264330606199
Option 3 ID : 264330606202
Option 4 ID : 264330606200
Status : Answered
Chosen Option : 2

Q.6 अंग्रेजी वर्णमाला क्रम के आधार पर दी गई श्रृंखला में प्रश्न चिह्न (?) के स्थान पर क्या आना चाहिए?

BLS, FJQ, JHO, NFM, ?

- Ans
- 1. QCI
 - 2. SCK
 - 3. RDK
 - 4. QEJ

Question ID : 264330155796
Option 1 ID : 264330610588
Option 2 ID : 264330610590
Option 3 ID : 264330610589
Option 4 ID : 264330610587
Status : Answered
Chosen Option : 3

Q.7 दी गई श्रृंखला में प्रश्न चिह्न '?' के स्थान पर क्या आना चाहिए?

41 45 54 70 95 ?

- Ans
- 1. 131
 - 2. 133
 - 3. 132
 - 4. 130

Question ID : 264330151557
Option 1 ID : 264330593856
Option 2 ID : 264330593858
Option 3 ID : 264330593857
Option 4 ID : 264330593855
Status : Answered
Chosen Option : 1

Q.8 नीचे दिए गए कथनों और निष्कर्षों को ध्यानपूर्वक पढ़िए। आपको मानना है कि दिए गए कथन सत्य हैं चाहे वे समान्यतः ज्ञात तथ्यों से अलग प्रतीत होते हों। आपको निश्चय करना है कि कौन-सा/कौन-से निष्कर्ष तार्किक रूप से दिए गए कथनों के अनुसार है/हैं।

कथन: कुछ लिपस्टिक, फाउंडेशन हैं। सभी फाउंडेशन, ब्राउन हैं। कुछ ब्राउन, हाईलाइटर हैं।

निष्कर्ष I: कुछ लिपस्टिक, ब्राउन हैं।

निष्कर्ष II: सभी फाउंडेशन, हाईलाइटर हैं।

Ans

- 1. केवल निष्कर्ष (II) कथनों के अनुसार है।
- 2. दोनों निष्कर्ष (I) और (II) कथनों के अनुसार हैं।
- 3. न तो निष्कर्ष (I) और न ही (II) कथनों के अनुसार है।
- 4. केवल निष्कर्ष (I) कथनों के अनुसार है।

Question ID : 264330155936

Option 1 ID : 264330611148

Option 2 ID : 264330611150

Option 3 ID : 264330611149

Option 4 ID : 264330611147

Status : Answered

Chosen Option : 4

Q.9 एक निश्चित कूट भाषा में, 'DRAW' को '7932' लिखा जाता है और 'WEAR' को '4729' लिखा जाता है। उसी कूट भाषा में 'E' को कैसे लिखा जाएगा?

Ans

- 1. 7
- 2. 4
- 3. 9
- 4. 2

Question ID : 264330151687

Option 1 ID : 264330594377

Option 2 ID : 264330594378

Option 3 ID : 264330594375

Option 4 ID : 264330594376

Status : Answered

Chosen Option : 2

Q.10 यदि निम्नलिखित आकृति श्रृंखला को जारी रखना हो तो कौन-सी आकृति प्रश्न चिन्ह (?) के स्थान पर आनी चाहिए?

9	5	A	9	
A	C	5	9	Z
O	Z	A	C	Z
				O
				C
				5
				?

Ans

✓ 1.

		C
5	9	A
		O
		Z

✗ 2.

		C
Z	9	5
		O
		A

✗ 3.

		O
5	C	A
		9
		Z

✗ 4.

		C
Z	A	O
		5
		9

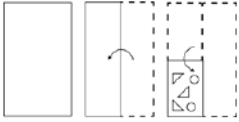
Question ID : 264330154738
 Option 1 ID : 264330606417
 Option 2 ID : 264330606418
 Option 3 ID : 264330606416
 Option 4 ID : 264330606415
 Status : Answered
 Chosen Option : 1

Q.11 एक निश्चित तर्क के अनुसार 18, 54 से संबंधित है। समान तर्क के अनुसार, 21, 63 से संबंधित है। समान तर्क का अनुसरण करते हुए 72 निम्नलिखित में से किससे संबंधित है?

- Ans
- ✓ 1. 216
 - ✗ 2. 222
 - ✗ 3. 220
 - ✗ 4. 218

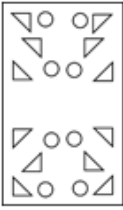
Question ID : 264330151592
 Option 1 ID : 264330593995
 Option 2 ID : 264330593998
 Option 3 ID : 264330593997
 Option 4 ID : 264330593996
 Status : Answered
 Chosen Option : 1

Q.12 निम्नलिखित आकृतियों में एक कागज़ के टुकड़े को मोड़ने के क्रम और मुड़े हुए कागज़ को काटने के तरीके को दर्शाया गया है। खोलने पर यह कागज़ कैसा दिखाई देगा?

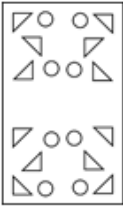


Ans

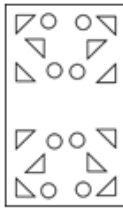
✗ 1.



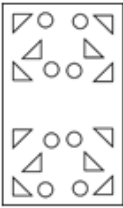
✗ 2.



✓ 3.



✗ 4.



Question ID : 264330155609

Option 1 ID : 264330609842

Option 2 ID : 264330609839

Option 3 ID : 264330609840

Option 4 ID : 264330609841

Status : Answered

Chosen Option : 3

Q.13 दी गई श्रृंखला में प्रश्न चिह्न '?' के स्थान पर क्या आना चाहिए?

51 53 57 59 ? 65 69

Ans

✓ 1. 63

✗ 2. 62

✗ 3. 64

✗ 4. 65

Question ID : 264330151546

Option 1 ID : 264330593812

Option 2 ID : 264330593811

Option 3 ID : 264330593813

Option 4 ID : 264330593814

Status : Answered

Chosen Option : 1

Q.14 छः लोग, विजय, हर्ष, गोलू, सतीश, करण और अवधी एक सीधी पंक्ति में उत्तर की ओर मुख करके बैठे हैं। विजय दाईं ओर के छोर से तीसरे स्थान पर बैठा है। हर्ष, विजय के बाईं ओर से तीसरे स्थान पर बैठा है। सतीश, हर्ष का निकटतम पड़ोसी है। गोलू, सतीश के दाईं ओर से तीसरे स्थान पर बैठा है। अवधी, गोलू की निकटतम पड़ोसी है। विजय के दाईं ओर से दूसरे स्थान पर कौन बैठा/बैठी है?

- Ans**
- 1. सतीश
 - 2. गोलू
 - 3. करण
 - 4. अवधी

Question ID : 264330155664

Option 1 ID : 264330610060

Option 2 ID : 264330610062

Option 3 ID : 264330610059

Option 4 ID : 264330610061

Status : Answered

Chosen Option : 4

Q.15 यदि '+' और '-' को आपस में बदल दिया जाए तथा 'x' और '÷' को आपस में बदल दिया जाए तो निम्नलिखित समीकरण में (?) के स्थान पर क्या आएगा?

$$90 \div 4 + 75 - 93 \times 3 = ?$$

- Ans**
- 1. 406
 - 2. 316
 - 3. 165
 - 4. 279

Question ID : 264330154618

Option 1 ID : 264330605938

Option 2 ID : 264330605937

Option 3 ID : 264330605935

Option 4 ID : 264330605936

Status : Answered

Chosen Option : 2

Q.16 नीचे दिए गए कथन/कथनों और निष्कर्षों को ध्यानपूर्वक पढ़िए। आपको मानना है कि दिए गए कथन सत्य हैं चाहे वे समान्यतः ज्ञात तथ्यों से अलग प्रतीत होते हों। आपको निश्चय करना है कि कौन-सा/कौन-से निष्कर्ष तार्किक रूप से दिए गए कथन/कथनों के अनुसार है/हैं।

कथन: सभी कप, किताबें हैं। सभी किताबें, शर्ट हैं।

निष्कर्ष:

(I) कुछ कप, शर्ट नहीं हैं।

(II) कुछ शर्ट, कप हैं।

- Ans**
- 1. केवल निष्कर्ष (I) कथनों के अनुसार है।
 - 2. न तो निष्कर्ष (I) और न ही (II) कथनों के अनुसार है।
 - 3. केवल निष्कर्ष (II) कथनों के अनुसार है।
 - 4. दोनों निष्कर्ष (I) और (II) कथनों के अनुसार हैं।

Question ID : 264330154425

Option 1 ID : 264330605163

Option 2 ID : 264330605165

Option 3 ID : 264330605164

Option 4 ID : 264330605166

Status : Answered

Chosen Option : 3

Q.17 दी गई श्रृंखला में प्रश्न चिन्ह '?' के स्थान पर क्या आना चाहिए?

10 59 353 ? 12701 76205 457229

- Ans
- ✓ 1. 2117
 - ✗ 2. 2073
 - ✗ 3. 2149
 - ✗ 4. 2247

Question ID : 264330151487
Option 1 ID : 264330593576
Option 2 ID : 264330593575
Option 3 ID : 264330593577
Option 4 ID : 264330593578
Status : Answered
Chosen Option : 1

Q.18 उस समुच्चय को चुनिए जिसमें संख्याएँ ठीक उसी प्रकार संबंधित हैं जिस प्रकार निम्नलिखित समुच्चयों की संख्याएँ संबंधित हैं।

(ध्यान दें: संख्याओं को उनके घटक अंकों में अलग-अलग किए बिना, पूर्ण संख्याओं पर संक्रियाएँ की जानी चाहिए। उदा. 13 - संख्या 13 पर संक्रियाएँ जैसे 13 को जोड़ना/घटाना/गुणा करना आदि किया जा सकता है। 13 को 1 और 3 में अलग-अलग करने की ओर फिर 1 और 3 पर गणितीय संक्रियाएँ करने की अनुमति नहीं है।)

(25, 49, 73)

(34, 23, 12)

- Ans
- ✗ 1. 5, 35, 17
 - ✗ 2. 11, 9, 18
 - ✗ 3. 13, 15, 19
 - ✓ 4. 18, 22, 26

Question ID : 264330151610
Option 1 ID : 264330594067
Option 2 ID : 264330594068
Option 3 ID : 264330594069
Option 4 ID : 264330594070
Status : Not Answered
Chosen Option : --

Q.19 एक निश्चित कूट भाषा में, 'DOMINATE' को 'TANIMODE' लिखा जाता है और 'FAITHFUL' को 'UFHTIAFL' लिखा जाता है। उस कूट भाषा में 'HIGHWAY' को कैसे लिखा जाएगा?

- Ans
- ✗ 1. YAWHGIH
 - ✗ 2. AYWHGIH
 - ✗ 3. IGHWAYH
 - ✓ 4. AWHGIHY

Question ID : 264330155815
Option 1 ID : 264330610664
Option 2 ID : 264330610665
Option 3 ID : 264330610666
Option 4 ID : 264330610663
Status : Answered
Chosen Option : 4

Q.20 अंग्रेजी वर्णमाला क्रम के आधार पर दी गई श्रृंखला में प्रश्न चिह्न (?) के स्थान पर क्या आना चाहिए?

MF, JCU, GZR, DWO, ?

- Ans
- ✓ 1. ATL
 - ✗ 2. ZRM
 - ✗ 3. ZSL
 - ✗ 4. YSM

Question ID : 264330155770

Option 1 ID : 264330610483

Option 2 ID : 264330610484

Option 3 ID : 264330610486

Option 4 ID : 264330610485

Status : Answered

Chosen Option : 1

Section : General Awareness

Q.1 मुल्क राज आनंद _____ के लेखक हैं।

- Ans
- ✓ 1. अनटचेबल (Untouchable)
 - ✗ 2. द इन्विजिबल मैन (The Invisible Man)
 - ✗ 3. ए पैसेज टू इंडिया (A Passage to India)
 - ✗ 4. द गाइड (The Guide)

Question ID : 264330160973

Option 1 ID : 264330631226

Option 2 ID : 264330631225

Option 3 ID : 264330631224

Option 4 ID : 264330631223

Status : Answered

Chosen Option : 1

Q.2 कौन 1827 में एक सूत्र प्रकाशित करने के लिए प्रसिद्ध था जो विद्युत धारा, प्रतिरोध और वोल्टता के बीच एक गणितीय संबंध दर्शाता है?

- Ans
- ✗ 1. विलियम गिल्बर्ट (William Gilbert)
 - ✗ 2. गुस्ताव किरचॉफ (Gustav Kirchhoff)
 - ✗ 3. विलियम वॉटसन (William Watson)
 - ✓ 4. जॉर्ज साइमन ओम (Georg Simon Ohm)

Question ID : 264330161047

Option 1 ID : 264330631519

Option 2 ID : 264330631521

Option 3 ID : 264330631522

Option 4 ID : 264330631520

Status : Answered

Chosen Option : 4

Q.3 समुद्री डकैती विरोधी विधेयक, 2022 (Maritime Anti-Piracy Act, 2022) के संबंध में निम्नलिखित में से कौन-सा कथन सत्य है?

- 1) संसद ने दिसंबर 2022 में समुद्री डकैती विरोधी विधेयक, 2022 को राज्यसभा से मंजूरी दे दी।
- 2) यह अधिनियम भारतीय अधिकारियों को खुले समुद्र में समुद्री डकैती के खिलाफ कार्रवाई करने में सक्षम बनाता है।
- 3) यह विशिष्ट आर्थिक क्षेत्र से परे समुद्र पर लागू होता है, जो भारत के समुद्र तट से 500 समुद्री मील से ऊपर है।
- 4) अधिनियम समुद्री डकैती को किसी निजी जहाज या विमान के चालक दल या यात्रियों द्वारा निजी उद्देश्यों के लिए किसी जहाज, विमान या व्यक्ति के खिलाफ हिंसा, हिरासत या विनाश के किसी भी अवैध कार्य के रूप में परिभाषित करता है।

- Ans
- 1. 2, 3 और 4
 - 2. 1, 2 और 4
 - 3. 1, 3 और 4
 - 4. 1, 2 और 3

Question ID : 264330161417

Option 1 ID : 264330632997

Option 2 ID : 264330632998

Option 3 ID : 264330632996

Option 4 ID : 264330632995

Status : Not Answered

Chosen Option : --

Q.4 ताजमहल के मकबरे की रूपरेखा _____ द्वारा तैयार की गई थी।

- Ans
- 1. मोहम्मद ईशा
 - 2. उस्ताद अहमद लाहौरी
 - 3. भक्तियार लाहौरी
 - 4. शाहजहां

Question ID : 264330160766

Option 1 ID : 264330630397

Option 2 ID : 264330630396

Option 3 ID : 264330630395

Option 4 ID : 264330630398

Status : Answered

Chosen Option : 1

Q.5 जेट प्रवाह किसका एक विशेष रूप है?

- Ans
- 1. मौसम वाताग्र
 - 2. वायुमंडलीय प्रदूषण
 - 3. आवधिक जल गति
 - 4. भूविक्षेपी पवनें

Question ID : 264330161304

Option 1 ID : 264330632545

Option 2 ID : 264330632543

Option 3 ID : 264330632544

Option 4 ID : 264330632546

Status : Answered

Chosen Option : 4

Q.6 कर्नाटक की रानी मचैया (Rani Machaiah) को कर्नाटक और कर्नाटक के बाहर _____ को लोकप्रिय बनाने में उनके योगदान के लिए पद्म श्री से सम्मानित किया गया था।

- Ans 1. उम्मत्त-आट (Ummathat)
 2. कराडी माजलू (Karadi Majalu)
 3. कामसले नृत्य (Kamsale Nritya)
 4. कुनिठा (Kunitha)

Question ID : 264330160804
Option 1 ID : 264330630548
Option 2 ID : 264330630550
Option 3 ID : 264330630549
Option 4 ID : 264330630547
Status : Answered
Chosen Option : 1

Q.7 विश्व का सबसे बड़ा ऊंट मेला निम्नलिखित में से किस शहर में आयोजित किया जाता है?

- Ans 1. उदयपुर
 2. बीकानेर
 3. पुष्कर
 4. बाड़मेर

Question ID : 264330159084
Option 1 ID : 264330623695
Option 2 ID : 264330623697
Option 3 ID : 264330623696
Option 4 ID : 264330623698
Status : Answered
Chosen Option : 3

Q.8 बिरसा मुंडा हॉकी स्टेडियम किस राज्य में बनाया गया था?

- Ans 1. ओडिशा
 2. गुजरात
 3. महाराष्ट्र
 4. झारखंड

Question ID : 264330158242
Option 1 ID : 264330620327
Option 2 ID : 264330620328
Option 3 ID : 264330620329
Option 4 ID : 264330620330
Status : Answered
Chosen Option : 1

Q.9 निम्नलिखित में से कौन-सी पहाड़ियां पूर्वांचल में स्थित हैं ?

- Ans 1. मिज़ो पहाड़ियां और नागा पहाड़ियां
 2. खासी और जयन्तिया पहाड़ियां
 3. अनाई मुडी और डोडा बेटा
 4. शेवराय पहाड़ियां और जावोडी पहाड़ियां

Question ID : 264330160150
Option 1 ID : 264330627939
Option 2 ID : 264330627940
Option 3 ID : 264330627941
Option 4 ID : 264330627942
Status : Answered
Chosen Option : 1

Q.10 निम्नलिखित में से किस देश ने मार्च 2023 में तीसरी बार IBA महिला विश्व मुक्केबाजी चैंपियनशिप (IBA Women's World Boxing Championships) की मेजबानी की?

- Ans
- 1. यूनाइटेड किंगडम
 - 2. मलेशिया
 - 3. भारत
 - 4. हंगरी

Question ID : 264330161442
Option 1 ID : 264330633095
Option 2 ID : 264330633097
Option 3 ID : 264330633098
Option 4 ID : 264330633096
Status : Answered
Chosen Option : 3

Q.11 नीला हरा शैवाल एनाबिना (Anabaena) मीठे पानी के फर्न अजोला (Azolla) की पत्तियों में रहता है, जो निम्नलिखित में से कौन-सा संबंध बनाता है?

- Ans
- 1. परजीवी
 - 2. मृतपोषी
 - 3. स्वपोषी
 - 4. सहजीवी

Question ID : 264330156603
Option 1 ID : 264330613801
Option 2 ID : 264330613800
Option 3 ID : 264330613802
Option 4 ID : 264330613799
Status : Answered
Chosen Option : 4

Q.12 निम्नलिखित में से किस राज्य ने भारत के 36वें राष्ट्रीय खेलों की मेजबानी की थी?

- Ans
- 1. गुजरात
 - 2. महाराष्ट्र
 - 3. कर्नाटक
 - 4. पंजाब

Question ID : 264330158220
Option 1 ID : 264330620239
Option 2 ID : 264330620240
Option 3 ID : 264330620241
Option 4 ID : 264330620242
Status : Answered
Chosen Option : 1

Q.13 'मिडनाइट्स चिल्ड्रेन (Midnight's Children)' निम्नलिखित में से किस लेखक का उपन्यास है?

- Ans
- 1. चेतन भगत
 - 2. सलमान रुश्दी
 - 3. विक्रम सेठ
 - 4. जेन औस्टिन

Question ID : 264330160968
Option 1 ID : 264330631203
Option 2 ID : 264330631205
Option 3 ID : 264330631204
Option 4 ID : 264330631206
Status : Answered
Chosen Option : 2

Q.14 एक व्यावसायिक बैंक का प्राथमिक कार्य क्या है?

- Ans
- 1. ऋण देना और जमा स्वीकार करना
 - 2. मुद्रा आपूर्ति का विनियमन
 - 3. मौद्रिक नीति का संचालन
 - 4. करेंसी नोट और सिक्के जारी करना

Question ID : 264330157304

Option 1 ID : 264330616581

Option 2 ID : 264330616580

Option 3 ID : 264330616582

Option 4 ID : 264330616579

Status : Answered

Chosen Option : 1

Q.15 मध्यकालीन भारत के निम्नलिखित संगीतकारों में से किसे 'तूती-ए-हिन्द (Tuti-e-Hind)' कहा जाता है और कव्वाली का जनक भी माना जाता है?

- Ans
- 1. पुरंदर दास
 - 2. स्वामी हरिदास
 - 3. मियां तानसेन
 - 4. अमीर खुसरो

Question ID : 264330161770

Option 1 ID : 264330634407

Option 2 ID : 264330634408

Option 3 ID : 264330634409

Option 4 ID : 264330634410

Status : Answered

Chosen Option : 4

Q.16 आंध्र प्रदेश राज्य में स्वदेशी आंदोलन को क्या कहा गया?

- Ans
- 1. गदर आंदोलन
 - 2. वंदे मातरम आंदोलन
 - 3. खिलाफत आंदोलन
 - 4. भारत छोड़ो आंदोलन

Question ID : 264330161739

Option 1 ID : 264330634284

Option 2 ID : 264330634286

Option 3 ID : 264330634283

Option 4 ID : 264330634285

Status : Answered

Chosen Option : 2

Q.17 निम्नलिखित में से सही जोड़ी (स्थानांतरित कृषि का नाम और संबंधित राज्य) की पहचान कीजिए।

- Ans
- 1. बरीगां – उत्तरप्रदेश
 - 2. पोडु – तमिलनाडु
 - 3. बेवर – मध्यप्रदेश
 - 4. कुरुवा – पंजाब

Question ID : 264330161509

Option 1 ID : 264330633365

Option 2 ID : 264330633366

Option 3 ID : 264330633363

Option 4 ID : 264330633364

Status : Not Answered

Chosen Option : --

Q.18 संस्कृत के ज्ञान के लिए कलकत्ता विश्वविद्यालय के संकाय से पंडिता की उपाधि किसे मिली?

- Ans
- 1. सरोजिनी नायडू
 - 2. रमाबाई सरस्वती
 - 3. रास सुंदरी देवी
 - 4. रोकया सखावत हुसैन

Question ID : 264330160887

Option 1 ID : 264330630881

Option 2 ID : 264330630882

Option 3 ID : 264330630879

Option 4 ID : 264330630880

Status : Answered

Chosen Option : 2

Q.19 छत्तीसगढ़ के श्री डोमार सिंह कुंवर (Shri Domar Singh Kunvar) को 'नाट्य नाच' (Natya Nach) में उनके योगदान के लिए वर्ष 2023 में _____ से सम्मानित किया गया।

- Ans
- 1. पद्म विभूषण
 - 2. पद्म श्री
 - 3. पद्म भूषण
 - 4. भारत रत्न

Question ID : 264330155527

Option 1 ID : 264330609513

Option 2 ID : 264330609511

Option 3 ID : 264330609512

Option 4 ID : 264330609514

Status : Answered

Chosen Option : 2

Q.20 भारतीय नागरिकों के मौलिक कर्तव्य किस देश के संविधान से अपनाए गए थे?

- Ans
- 1. जापान
 - 2. संयुक्त राज्य अमेरिका
 - 3. सोवियत संघ
 - 4. यूनाइटेड किंगडम

Question ID : 264330162244

Option 1 ID : 264330636305

Option 2 ID : 264330636303

Option 3 ID : 264330636306

Option 4 ID : 264330636304

Status : Answered

Chosen Option : 3

Q.21 _____ का बलती नृत्य (Balti dance) विशिष्ट है क्योंकि बलती भाषा में इसकी अपनी पोशाक, संगीत और गीत हैं। यह नृत्य केवल दुर्लभ अवसरों पर ही किया जाता है, जैसे दावतें या उत्सव।

- Ans
- 1. लद्दाख
 - 2. उत्तराखंड
 - 3. कश्मीर
 - 4. हिमाचल प्रदेश

Question ID : 264330160797
Option 1 ID : 264330630519
Option 2 ID : 264330630522
Option 3 ID : 264330630520
Option 4 ID : 264330630521
Status : Answered
Chosen Option : 3

Q.22 राज्य विधानमंडल (State Legislature) के किसी भी सदन का सदस्य हुए बिना कोई व्यक्ति कितने समय तक मंत्री बना रह सकता है?

- Ans
- 1. 2 महीने
 - 2. 6 महीने
 - 3. 1 वर्ष
 - 4. 15 दिन

Question ID : 264330159930
Option 1 ID : 264330627067
Option 2 ID : 264330627068
Option 3 ID : 264330627069
Option 4 ID : 264330627070
Status : Answered
Chosen Option : 2

Q.23 निम्नलिखित भारतीय संगीतकारों में से मोहन वीणा के आविष्कारक कौन हैं?

- Ans
- 1. संदीप दास
 - 2. पंडित विश्वमोहन भट्ट
 - 3. तोताराम शर्मा
 - 4. ब्रज भूषण काबरा

Question ID : 264330161778
Option 1 ID : 264330634439
Option 2 ID : 264330634440
Option 3 ID : 264330634442
Option 4 ID : 264330634441
Status : Answered
Chosen Option : 2

Q.24 निम्नलिखित में से कौन-सा सरकारी बजट में राजस्व प्राप्ति का उदाहरण है?

- Ans
- 1. अंतर्राष्ट्रीय संगठनों से धनराशि ऋण पर लेना
 - 2. किसी राज्य-स्वामित्व वाली कंपनी द्वारा ऋण का पुनर्भुगतान
 - 3. सरकारी-स्वामित्व वाली भूमि की बिक्री
 - 4. राज्य- स्वामित्व वाले उद्यम से प्राप्त लाभांश

Question ID : 264330157277
Option 1 ID : 264330616472
Option 2 ID : 264330616473
Option 3 ID : 264330616471
Option 4 ID : 264330616474
Status : Answered
Chosen Option : 3

Q.25 वैश्विक बहुआयामी गरीबी सूचकांक रिपोर्ट 2022 के अनुसार, पिछले _____ में भारत में कुल 415 मिलियन लोग बहुआयामी गरीबी से बाहर निकले हैं।

- Ans
- 1. 20 वर्ष
 - 2. 5 वर्ष
 - 3. 10 वर्ष
 - 4. 15 वर्ष

Question ID : 264330161568
Option 1 ID : 264330633602
Option 2 ID : 264330633599
Option 3 ID : 264330633600
Option 4 ID : 264330633601
Status : Answered
Chosen Option : 3

Section : English Language and Comprehension

Q.1 The following sentence has been split into four segments. Identify the segment that contains a grammatical error and select the option which rectifies that error.

The SNAP-10 A / was launched on 3 April 1965 / on a Atlas-Agena D rocket / from Vandenberg Air Force Base.

- Ans
- 1. at Vandenberg Air Force Base.
 - 2. on an Atlas-Agena D rocket
 - 3. was launch on 3 April 1965
 - 4. A SNAP-10 A

Question ID : 264330141342
Option 1 ID : 264330553704
Option 2 ID : 264330553706
Option 3 ID : 264330553703
Option 4 ID : 264330553705
Status : Answered
Chosen Option : 2

Q.2 Select the most appropriate synonym of the given word.
Laconic

- Ans
- 1. Reasonable
 - 2. Concise
 - 3. Certain
 - 4. Fanciful

Question ID : 264330152682
Option 1 ID : 264330598334
Option 2 ID : 264330598332
Option 3 ID : 264330598331
Option 4 ID : 264330598333
Status : Not Answered
Chosen Option : --

Q.3 The following sentence has been split into four segments. Identify the segment that contains a grammatical error.

The little child / wrote his name / quick / on the wall.

- Ans
- 1. wrote his name
 - 2. on the wall
 - 3. The little child
 - 4. quick

Question ID : 264330153183

Option 1 ID : 264330600292

Option 2 ID : 264330600294

Option 3 ID : 264330600291

Option 4 ID : 264330600293

Status : Answered

Chosen Option : 4

Q.4 Select the option that can be used as a one-word substitute for the given group of words.

Pause indecisively

- Ans
- 1. Hoist
 - 2. Hibernate
 - 3. Hesitate
 - 4. Hobble

Question ID : 264330151910

Option 1 ID : 264330595258

Option 2 ID : 264330595256

Option 3 ID : 264330595255

Option 4 ID : 264330595257

Status : Answered

Chosen Option : 4

Q.5 Select the most appropriate idiom to fill in the blank.
She told me, _____, that she was going to live in New York.

- Ans
- 1. once in a blue moon
 - 2. blue blood
 - 3. out of the blue
 - 4. black and blue

Question ID : 264330153097

Option 1 ID : 264330599951

Option 2 ID : 264330599954

Option 3 ID : 264330599953

Option 4 ID : 264330599952

Status : Answered

Chosen Option : 3

Q.6 The following sentence has been divided into four parts. Identify the part that contains an error.

(A) It is said / (B) that fortune / (C) favour the / (D) brave.

- Ans 1. D
 2. C
 3. B
 4. A

Question ID : 264330152625
Option 1 ID : 264330598106
Option 2 ID : 264330598105
Option 3 ID : 264330598104
Option 4 ID : 264330598103
Status : Answered
Chosen Option : 2

Q.7 Select the correct spelling of the underlined word in the following sentence.

He dispised the taste of black coffee.

- Ans 1. despidid
 2. despised
 3. disspised
 4. despeded

Question ID : 264330153082
Option 1 ID : 264330599891
Option 2 ID : 264330599894
Option 3 ID : 264330599893
Option 4 ID : 264330599892
Status : Answered
Chosen Option : 2

Q.8 Select the most appropriate synonym of the bracketed word in the following sentence to fill in the blank.

The medical procedure was successful, but the patient experienced some minor _____(troubles) during recovery.

- Ans 1. complications
 2. applications
 3. transformations
 4. obligations

Question ID : 264330152659
Option 1 ID : 264330598242
Option 2 ID : 264330598239
Option 3 ID : 264330598240
Option 4 ID : 264330598241
Status : Answered
Chosen Option : 1

Q.9 Select the most appropriate meaning of the given idiom.

Castles in the air

- Ans**
- 1. Strong hope to get success
 - 2. Realistic and possible plan
 - 3. Unexpected change in the climate
 - 4. Unrealistic and impossible plan

Question ID : 264330152905

Option 1 ID : 264330599209

Option 2 ID : 264330599208

Option 3 ID : 264330599210

Option 4 ID : 264330599207

Status : Answered

Chosen Option : 4

Q.10 Select the most appropriate option to fill in the blank.

Ravi has little in _____ with his friend, Senthil.

- Ans**
- 1. formal
 - 2. contention
 - 3. normal
 - 4. common

Question ID : 264330153421

Option 1 ID : 264330601217

Option 2 ID : 264330601215

Option 3 ID : 264330601216

Option 4 ID : 264330601218

Status : Answered

Chosen Option : 4

Q.11 Parts of the given sentence have been underlined. One of them contains an error. The underlined parts are given as options with some changes. Select the option that correctly rectifies the error.

This car is lesser expensive than the one I had come to buy.

- Ans**
- 1. less
 - 2. came
 - 3. for
 - 4. ones

Question ID : 264330153176

Option 1 ID : 264330600263

Option 2 ID : 264330600265

Option 3 ID : 264330600266

Option 4 ID : 264330600264

Status : Answered

Chosen Option : 1

Q.12 Select the **INCORRECTLY** spelt word.

- Ans 1. Experience
 2. Playwright
 3. Leisure
 4. Sergeant

Question ID : 264330153597
Option 1 ID : 264330601876
Option 2 ID : 264330601875
Option 3 ID : 264330601877
Option 4 ID : 264330601878
Status : Answered
Chosen Option : 4

Q.13 Select the most appropriate **ANTONYM** of the given word.
Dense

- Ans 1. Closed
 2. Opaque
 3. Sparse
 4. Thick

Question ID : 264330152589
Option 1 ID : 264330597962
Option 2 ID : 264330597961
Option 3 ID : 264330597959
Option 4 ID : 264330597960
Status : Answered
Chosen Option : 3

Q.14 The following sentence has been divided into parts. One of them may contain an error. Select the part that contains the error from the given options. If you don't find any error, mark 'No error' as your answer.

The fight of the cobra and the mongoose / is a classic drama often seen in India, / and the outcome was largely the same.

- Ans 1. The fight of the cobra and the mongoose
 2. No error
 3. is a classic drama often seen in India
 4. and the outcome was largely the same

Question ID : 264330153617
Option 1 ID : 264330601951
Option 2 ID : 264330601954
Option 3 ID : 264330601953
Option 4 ID : 264330601952
Status : Answered
Chosen Option : 4

Q.15 Select the most appropriate option that can substitute the underlined segment in the given sentence.

Teenage is that phase of life when you are proposed to the world outside.

- Ans
- 1. you are excited with
 - 2. you are interrupted to
 - 3. one are proposed to
 - 4. you are exposed to

Question ID : 264330151808
Option 1 ID : 264330594861
Option 2 ID : 264330594862
Option 3 ID : 264330594859
Option 4 ID : 264330594860
Status : Answered
Chosen Option : 4

Q.16 Select the most appropriate option to fill in the blank.

Make-up was _____ she hardly wore.

- Ans
- 1. something
 - 2. anybody
 - 3. someone
 - 4. anything

Question ID : 264330153494
Option 1 ID : 264330601492
Option 2 ID : 264330601493
Option 3 ID : 264330601491
Option 4 ID : 264330601494
Status : Answered
Chosen Option : 1

Q.17 Four words of the following sentence have been underlined and given as options. Select the option that contains a spelling error.

Ongoing climate change, caused by the acumulation of greenhouse gases in the atmosphere, is happening on a timescale of decades to centuries and is driving environmental changes worldwide.

- Ans
- 1. decades
 - 2. environmental
 - 3. atmosphere
 - 4. acumulation

Question ID : 264330151929
Option 1 ID : 264330595333
Option 2 ID : 264330595334
Option 3 ID : 264330595332
Option 4 ID : 264330595331
Status : Answered
Chosen Option : 4

Q.18 Select the most appropriate meaning of the given idiom.

Bone to pick

- Ans 1. To stop trying hard
 2. To be angry about something and want to discuss it
 3. Putting in extra effort
 4. To not give up

Question ID : 264330153012
Option 1 ID : 264330599619
Option 2 ID : 264330599620
Option 3 ID : 264330599621
Option 4 ID : 264330599622
Status : Answered
Chosen Option : 2

Q.19 Select the appropriate meaning of the given idiom.

Grasping at straws

- Ans 1. Wasting time enjoying and relaxing
 2. Holding the last strands of straw
 3. Desperate attempt to succeed
 4. Futile attempts to win

Question ID : 264330152979
Option 1 ID : 264330599489
Option 2 ID : 264330599487
Option 3 ID : 264330599488
Option 4 ID : 264330599490
Status : Answered
Chosen Option : 1

Q.20 Select the most appropriate option that can substitute the underlined segment in the given sentence.

The manager asked me if I have completed my projects.

- Ans 1. if he has completed my projects
 2. if I had completed my projects
 3. if I shall have completed my projects
 4. if I has completed my projects

Question ID : 264330152713
Option 1 ID : 264330598453
Option 2 ID : 264330598454
Option 3 ID : 264330598452
Option 4 ID : 264330598451
Status : Answered
Chosen Option : 2

Comprehension:

In the following passage, some words have been deleted. Read the passage carefully and select the most appropriate option to fill in each blank.

Health is the most valuable of all earthly possessions. Without it all the rest are worth (1)_____. To enjoy good health we should refrain from excess in eating. We should eat moderately and devour whatever (2)_____ get. When you sit among many for a dinner, do not reach your hand out (3)_____ of all. A little food is sufficient for us. Sound sleep comes of a light stomach. Such a man rises (4)_____ in the morning and is at ease with himself. So to (5)_____ good health we should eat moderately, for a man who does not overeat enjoys sound sleep and rises early completely refreshed.

SubQuestion No : 21

Q.21 Select the most appropriate option to fill in blank no. 1.

- Ans
- 1. it
 - 2. all
 - 3. everything
 - 4. nothing

Question ID : 264330153371

Option 1 ID : 264330601033

Option 2 ID : 264330601031

Option 3 ID : 264330601034

Option 4 ID : 264330601032

Status : Answered

Chosen Option : 4

Comprehension:

In the following passage, some words have been deleted. Read the passage carefully and select the most appropriate option to fill in each blank.

Health is the most valuable of all earthly possessions. Without it all the rest are worth (1)_____. To enjoy good health we should refrain from excess in eating. We should eat moderately and devour whatever (2)_____ get. When you sit among many for a dinner, do not reach your hand out (3)_____ of all. A little food is sufficient for us. Sound sleep comes of a light stomach. Such a man rises (4)_____ in the morning and is at ease with himself. So to (5)_____ good health we should eat moderately, for a man who does not overeat enjoys sound sleep and rises early completely refreshed.

SubQuestion No : 22

Q.22 Select the most appropriate option to fill in blank no. 2.

- Ans
- 1. we
 - 2. it
 - 3. he
 - 4. us

Question ID : 264330153372

Option 1 ID : 264330601036

Option 2 ID : 264330601038

Option 3 ID : 264330601035

Option 4 ID : 264330601037

Status : Answered

Chosen Option : 1

Comprehension:

In the following passage, some words have been deleted. Read the passage carefully and select the most appropriate option to fill in each blank.

Health is the most valuable of all earthly possessions. Without it all the rest are worth (1)_____. To enjoy good health we should refrain from excess in eating. We should eat moderately and devour whatever (2)_____ get. When you sit among many for a dinner, do not reach your hand out (3)_____ of all. A little food is sufficient for us. Sound sleep comes of a light stomach. Such a man rises (4)_____ in the morning and is at ease with himself. So to (5)_____ good health we should eat moderately, for a man who does not overeat enjoys sound sleep and rises early completely refreshed.

SubQuestion No : 23

Q.23 Select the most appropriate option to fill in blank no. 3.

- Ans** 1. first
 2. second
 3. end
 4. last

Question ID : 264330153373

Option 1 ID : 264330601039

Option 2 ID : 264330601042

Option 3 ID : 264330601041

Option 4 ID : 264330601040

Status : Answered

Chosen Option : 1

Comprehension:

In the following passage, some words have been deleted. Read the passage carefully and select the most appropriate option to fill in each blank.

Health is the most valuable of all earthly possessions. Without it all the rest are worth (1)_____. To enjoy good health we should refrain from excess in eating. We should eat moderately and devour whatever (2)_____ get. When you sit among many for a dinner, do not reach your hand out (3)_____ of all. A little food is sufficient for us. Sound sleep comes of a light stomach. Such a man rises (4)_____ in the morning and is at ease with himself. So to (5)_____ good health we should eat moderately, for a man who does not overeat enjoys sound sleep and rises early completely refreshed.

SubQuestion No : 24

Q.24 Select the most appropriate option to fill in blank no. 4.

- Ans** 1. idle
 2. early
 3. late
 4. active

Question ID : 264330153374

Option 1 ID : 264330601046

Option 2 ID : 264330601045

Option 3 ID : 264330601044

Option 4 ID : 264330601043

Status : Answered

Chosen Option : 4

Comprehension:

In the following passage, some words have been deleted. Read the passage carefully and select the most appropriate option to fill in each blank.

Health is the most valuable of all earthly possessions. Without it all the rest are worth (1)_____. To enjoy good health we should refrain from excess in eating. We should eat moderately and devour whatever (2)_____ get. When you sit among many for a dinner, do not reach your hand out (3)_____ of all. A little food is sufficient for us. Sound sleep comes of a light stomach. Such a man rises (4)_____ in the morning and is at ease with himself. So to (5)_____ good health we should eat moderately, for a man who does not overeat enjoys sound sleep and rises early completely refreshed.

SubQuestion No : 25

Q.25 Select the most appropriate option to fill in blank no. 5.

- Ans 1. lose
 2. enjoy
 3. reward
 4. benefit

Question ID : 264330153375

Option 1 ID : 264330601050

Option 2 ID : 264330601049

Option 3 ID : 264330601048

Option 4 ID : 264330601047

Status : Answered

Chosen Option : 2

KD Job Update

Multi Tasking Non Technical Staff and Havaldar CBIC and CBN Examination 2023

Roll Number	KD Job Updates
Candidate Name	KD Job Updates
Venue Name	iON Digital Zone iDZ Naino Ka Bas
Exam Date	12/09/2023
Exam Time	12:30 PM - 2:30 PM
Subject	MTS Non Tech Havaldar CBIC and CBN Examination 2023 Extra Time

Section : Numerical and Mathematical Ability

Q.1 A और B एक काम को क्रमशः 18 और 36 दिनों में कर सकते हैं। वे साथ मिलकर काम करना शुरू करते हैं लेकिन 3 दिन बाद A काम करना छोड़ देता है। शेष काम को पूरा करने में B को कितना समय लगेगा?

- Ans
- 1. 30 दिन
 - 2. 22 दिन
 - 3. 27 दिन
 - 4. 24 दिन

Question ID : 264330154096

Option 1 ID : 264330603848

Option 2 ID : 264330603850

Option 3 ID : 264330603847

Option 4 ID : 264330603849

Status : Answered

Chosen Option : 1

Q.2 निम्नलिखित तालिका का ध्यानपूर्वक अध्ययन कीजिए और नीचे दिए गए प्रश्न का उत्तर दीजिए। तालिका में चार अलग-अलग वर्षों में कंपनी 1, कंपनी 2, कंपनी 3 और कंपनी 4 का कुल उत्पादन (हजारों में) दर्शाया गया है।

वर्ष	कंपनी 1 का कुल उत्पादन	कंपनी 2 का कुल उत्पादन	कंपनी 3 का कुल उत्पादन	कंपनी 4 का कुल उत्पादन
2019	65	76	64	76
2020	88	85	72	68
2021	84	75	68	96
2022	71	84	76	72

वर्ष 2019 से 2022 तक किस कंपनी का औसत उत्पादन सर्वाधिक है?

- Ans
- 1. कंपनी 1
 - 2. कंपनी 4
 - 3. कंपनी 3
 - 4. कंपनी 2

Question ID : 264330157900

Option 1 ID : 264330618959

Option 2 ID : 264330618962

Option 3 ID : 264330618961

Option 4 ID : 264330618960

Status : Answered

Chosen Option : 4

Q.3 प्रतिदिन 6 घंटे काम करके 15 व्यक्ति एक निश्चित काम को 26 दिनों में पूरा कर सकते हैं। प्रतिदिन 10 घंटे काम करके 13 व्यक्ति उसी काम को कितने दिनों में पूरा करेंगे?

- Ans**
- 1. 15
 - 2. 18
 - 3. 20
 - 4. 17

Question ID : 264330155976
Option 1 ID : 264330611305
Option 2 ID : 264330611303
Option 3 ID : 264330611304
Option 4 ID : 264330611306
Status : Answered
Chosen Option : 2

Q.4 एक टैक्सी शहर P से शहर Q तक 60 km/h की औसत चाल से जाती है। वापसी की यात्रा में, ट्रेफिक के कारण, टैक्सी की औसत चाल में 20 km/h की कमी आ जाती है। पूरी यात्रा के दौरान टैक्सी की औसत चाल (km/h में) ज्ञात कीजिए।

- Ans**
- 1. 48
 - 2. 42
 - 3. 40
 - 4. 46

Question ID : 264330155956
Option 1 ID : 264330611225
Option 2 ID : 264330611224
Option 3 ID : 264330611223
Option 4 ID : 264330611226
Status : Answered
Chosen Option : 1

Q.5 ₹8,000 पर 10% वार्षिक दर से 6 वर्ष का साधारण ब्याज ज्ञात कीजिए।

- Ans**
- 1. ₹4,200
 - 2. ₹4,800
 - 3. ₹4,400
 - 4. ₹4,600

Question ID : 264330155964
Option 1 ID : 264330611257
Option 2 ID : 264330611255
Option 3 ID : 264330611258
Option 4 ID : 264330611256
Status : Answered
Chosen Option : 2

Q.6 दो संख्याओं का गुणनफल 4107 है। यदि इन संख्याओं का महत्तम समापवर्तक 37 है, तो बड़ी संख्या कौन-सी है?

- Ans 1. 111
 2. 74
 3. 37
 4. 185

Question ID : 264330156246
Option 1 ID : 264330612385
Option 2 ID : 264330612384
Option 3 ID : 264330612383
Option 4 ID : 264330612386
Status : Answered
Chosen Option : 1

Q.7 यदि एक ठोस गोले का व्यास 42 cm है, तो गोले का पृष्ठीय क्षेत्रफल कितना है? ($\pi = \frac{22}{7}$ का प्रयोग करें)

- Ans 1. 5544 cm²
 2. 5854 cm²
 3. 6897 cm²
 4. 3256 cm²

Question ID : 264330156538
Option 1 ID : 264330613539
Option 2 ID : 264330613541
Option 3 ID : 264330613542
Option 4 ID : 264330613540
Status : Answered
Chosen Option : 1

Q.8 स्कूल A और B में छात्रों की संख्या का अनुपात 5 : 8 है। यदि स्कूल A और B में छात्रों की संख्या में क्रमशः 20% और 15% की वृद्धि हो जाती है, तो क्रमशः स्कूल A और B में छात्रों का नया अनुपात ज्ञात कीजिए।

- Ans 1. 12 : 13
 2. 15 : 13
 3. 15 : 23
 4. 13 : 15

Question ID : 264330153843
Option 1 ID : 264330602837
Option 2 ID : 264330602835
Option 3 ID : 264330602838
Option 4 ID : 264330602836
Status : Answered
Chosen Option : 3

Q.9 15 व्यक्तियों के रहने के लिए एक शंकाकार तम्बू बनाया जाता है। प्रत्येक व्यक्ति के पास जमीन पर 5 वर्ग मीटर जगह है और सांस लेने के लिए 30 घन मीटर हवा होगी। शंकाकार तम्बू की ऊंचाई कितनी है?

- Ans**
- 1. 13 m
 - 2. 22 m
 - 3. 18 m
 - 4. 15 m

Question ID : 264330156200
Option 1 ID : 264330612199
Option 2 ID : 264330612202
Option 3 ID : 264330612201
Option 4 ID : 264330612200
Status : Answered
Chosen Option : 3

Q.10 एक राजमार्ग पर दो स्थान A और B एक-दूसरे से 60 km की दूरी पर हैं। एक कार A से और दूसरी कार B से एक ही समय पर चलना शुरू करती हैं। यदि वे एक ही दिशा में चलती हैं, तो वे 6 घंटे में एक-दूसरे से मिलती हैं। यदि वे एक-दूसरे की ओर विपरीत दिशा में चलती हैं, तो वे 1 घंटे 30 मिनट में मिलती हैं। कारों की चाल ज्ञात कीजिए (km/h में)।

- Ans**
- 1. 25, 20
 - 2. 15, 18
 - 3. 15, 20
 - 4. 25, 15

Question ID : 264330156006
Option 1 ID : 264330611425
Option 2 ID : 264330611426
Option 3 ID : 264330611424
Option 4 ID : 264330611423
Status : Answered
Chosen Option : 4

Q.11 एक पुलिसकर्मी एक चोर को 249 m की दूरी से देखता है। जब पुलिसकर्मी चोर का पीछा करना शुरू करता है तो चोर भी भागने लगता है। यह मानते हुए कि चोर की चाल 4 m/s और पुलिसकर्मी की चाल 7 m/s है, पुलिसकर्मी द्वारा पकड़े जाने से पहले चोर कितनी दूरी तय कर चुका होगा?

- Ans**
- 1. 332 m
 - 2. 521 m
 - 3. 747 m
 - 4. 249 m

Question ID : 264330153881
Option 1 ID : 264330602988
Option 2 ID : 264330602987
Option 3 ID : 264330602989
Option 4 ID : 264330602990
Status : Answered
Chosen Option : 1

Q.12 एक बैंक अपनी जमा राशियों पर अर्धवार्षिक रूप से संयोजित 5% वार्षिक का चक्रवृद्धि ब्याज देता है। एक ग्राहक किसी वर्ष की 1 जनवरी और 1 जुलाई को प्रत्येक ₹2,400 की धनराशियां जमा करता है। वर्ष के अंत में उसे प्राप्त होने वाली धनराशि ज्ञात कीजिए।

- Ans**
- ✓ 1. ₹4,981.50
 - ✗ 2. ₹181.50
 - ✗ 3. ₹180.50
 - ✗ 4. ₹4,081.50

Question ID : 264330153851
Option 1 ID : 264330602869
Option 2 ID : 264330602868
Option 3 ID : 264330602867
Option 4 ID : 264330602870
Status : Answered
Chosen Option : 1

Q.13 एक आईपीएल मैच में 22 खिलाड़ियों का औसत स्कोर 72 है। इन 22 खिलाड़ियों में से 10 खिलाड़ियों का औसत स्कोर 80 है, अगले 5 खिलाड़ियों का औसत स्कोर 75 है और बाकी 5 खिलाड़ियों का औसत स्कोर 55 है। शेष दो खिलाड़ियों का औसत स्कोर कितना है?

- Ans**
- ✓ 1. 67
 - ✗ 2. 72
 - ✗ 3. 80
 - ✗ 4. 65

Question ID : 264330154042
Option 1 ID : 264330603634
Option 2 ID : 264330603633
Option 3 ID : 264330603631
Option 4 ID : 264330603632
Status : Answered
Chosen Option : 1

Q.14 18% की हानि के स्थान पर 12% की हानि पर एक वस्तु बेचने पर वस्तु ₹120 अधिक में बिकती है। इसका क्रय मूल्य ज्ञात कीजिए।

- Ans**
- ✓ 1. ₹ 2,000
 - ✗ 2. ₹ 2,100
 - ✗ 3. ₹ 1,800
 - ✗ 4. ₹ 1,500

Question ID : 264330156073
Option 1 ID : 264330611694
Option 2 ID : 264330611691
Option 3 ID : 264330611692
Option 4 ID : 264330611693
Status : Answered
Chosen Option : 1

Q.15 रमन ने ₹1,00,000 में एक वस्तु खरीदी और उसे मोहित को ₹1,20,000 में बेच दिया। मोहित ने फिर वही वस्तु रश्मी को ₹1,00,000 में बेच दी। मोहित को कितने प्रतिशत हानि हुई?

- Ans
- ✓ 1. $16\frac{2}{3}\%$
 - ✗ 2. 15%
 - ✗ 3. $18\frac{1}{3}\%$
 - ✗ 4. 20%

Question ID : 264330155710
Option 1 ID : 264330610244
Option 2 ID : 264330610243
Option 3 ID : 264330610245
Option 4 ID : 264330610246
Status : Answered
Chosen Option : 1

Q.16 यदि चीनी के मूल्य में 12% की कमी होने के कारण अक्षत ₹1,200 में 7 kg चीनी अधिक खरीद सकता है, तो चीनी का वास्तविक मूल्य (₹ में) ज्ञात कीजिए। (दशमलव के 2 स्थानों तक सन्निकटित)

- Ans
- ✗ 1. 26.35
 - ✗ 2. 28.25
 - ✗ 3. 25.79
 - ✓ 4. 23.38

Question ID : 264330155732
Option 1 ID : 264330610332
Option 2 ID : 264330610331
Option 3 ID : 264330610333
Option 4 ID : 264330610334
Status : Answered
Chosen Option : 4

Q.17 संदीप एक दुकान तक 500 मीटर की दूरी 175 सेकंड में तय करता है। फिर वह एक दूसरी दुकान तक 400 मीटर की दूरी 125 सेकंड में तय करता है। उसकी औसत चाल (m/s में) क्या है?

- Ans
- ✗ 1. 3.5
 - ✓ 2. 3
 - ✗ 3. 2
 - ✗ 4. 2.5

Question ID : 264330156214
Option 1 ID : 264330612258
Option 2 ID : 264330612257
Option 3 ID : 264330612255
Option 4 ID : 264330612256
Status : Answered
Chosen Option : 2

Q.18 y varies directly as x + 3 and y = 8, when x = 1. x varies inversely as z and x = 2 when z = 6. Find the relation between y and z.

- Ans**
- 1. $(y - 6)/z = 24$
 - 2. $(y - 6)/z = 12$
 - 3. $z(y - 6) = 12$
 - 4. $z(y - 6) = 24$

Question ID : 264330153847

Option 1 ID : 264330602853

Option 2 ID : 264330602851

Option 3 ID : 264330602852

Option 4 ID : 264330602854

Status : Answered

Chosen Option : 1

Q.19 $\frac{\left[\frac{1}{5} \div \frac{1}{5} \times \frac{1}{5}\right] \times \frac{1}{5}}{\left[\frac{1}{9} + \frac{1}{9} \times \frac{1}{9}\right] \times \frac{1}{10}} + \left(1 - \frac{6}{25}\right)$ का मान क्या है?

- Ans**
- 1. 1
 - 2. 3
 - 3. 4
 - 4. 2

Question ID : 264330153754

Option 1 ID : 264330602482

Option 2 ID : 264330602480

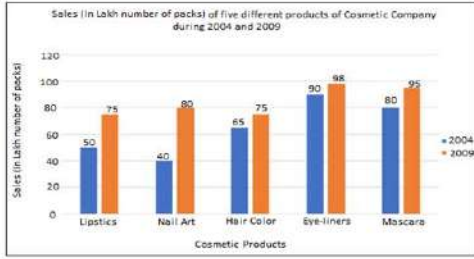
Option 3 ID : 264330602479

Option 4 ID : 264330602481

Status : Answered

Chosen Option : 3

Q.20 निम्नलिखित दंड आलेख में 2004 और 2009 के बीच एक कंपनी द्वारा पांच कॉस्मेटिक उत्पादों की बिक्री को (पैक की लाख संख्या में) दर्शाया गया है। दंड आलेख का अध्ययन कीजिए और उसके आधार पर प्रश्न का उत्तर दीजिए।



संदर्भ: Sales (in lakh number of packs) of five different products of Cosmetic company during 2004 and 2009 = 2004 और 2009 के दौरान कॉस्मेटिक कंपनी के पांच अलग-अलग उत्पादों की बिक्री (पैक की लाख संख्या में), Sales (in lakh number of packs) = बिक्री (पैक की लाख संख्या में), Cosmetic products = कॉस्मेटिक उत्पाद, Lipstics - लिपस्टिक, Nail Art - नैल आर्ट, Hair color - हैयर कलर, Eye-liners - आइ लाइनर, Mascara - मसकारा

2004 की तुलना में 2009 में सभी कॉस्मेटिक उत्पादों की मिलाकर औसत बिक्री में प्रतिशत वृद्धि (निकटतम पूर्णांक तक सन्निकटित) कितनी है?

- Ans
- 1. 33%
 - 2. 30%
 - 3. 28%
 - 4. 36%

Question ID : 264330153781
 Option 1 ID : 264330602587
 Option 2 ID : 264330602589
 Option 3 ID : 264330602590
 Option 4 ID : 264330602588
 Status : Answered
 Chosen Option : 2

Section : Reasoning Ability and Problem Solving

Q.1 दी गई श्रृंखला में प्रश्न चिह्न '?' के स्थान पर क्या आना चाहिए?

227 226 218 191 127 ?

- Ans
- 1. 3
 - 2. 4
 - 3. 1
 - 4. 2

Question ID : 264330151559
 Option 1 ID : 264330593865
 Option 2 ID : 264330593866
 Option 3 ID : 264330593863
 Option 4 ID : 264330593864
 Status : Answered
 Chosen Option : 4

Q.2 PD 17, TH 19 से एक निश्चित प्रकार से संबंधित है। उसी प्रकार, HK 23, LO 29 से संबंधित है। समान तर्क का अनुसरण करते हुए FJ 11 निम्नलिखित में से किससे संबंधित है?

- Ans**
- ✓ 1. JN 13
 - ✗ 2. IM 13
 - ✗ 3. IN 15
 - ✗ 4. HL 17

Question ID : 264330151673
Option 1 ID : 264330594319
Option 2 ID : 264330594322
Option 3 ID : 264330594320
Option 4 ID : 264330594321
Status : Answered
Chosen Option : 1

Q.3 नीचे दिए गए कथन/कथनों और निष्कर्षों को ध्यानपूर्वक पढ़िए। आपको मानना है कि दिए गए कथन सत्य हैं चाहे वे समान्यतः ज्ञात तथ्यों से अलग प्रतीत होते हों। आपको निश्चय करना है कि कौन-सा/कौन-से निष्कर्ष तार्किक रूप से दिए गए कथन/कथनों के अनुसार है/हैं।

कथन: कुछ गाय, कौवे हैं। कुछ कौवे, हाथी हैं।

निष्कर्ष:

- (I) कुछ गाय, हाथी हैं।
- (II) सभी कौवे, हाथी हैं।

- Ans**
- ✗ 1. दोनों निष्कर्ष (I) और (II) कथनों के अनुसार हैं।
 - ✗ 2. केवल निष्कर्ष (I) कथनों के अनुसार है।
 - ✓ 3. न तो निष्कर्ष (I) और न ही (II) कथनों के अनुसार है।
 - ✗ 4. केवल निष्कर्ष (II) कथनों के अनुसार है।

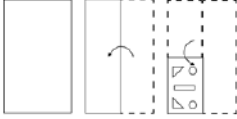
Question ID : 264330154426
Option 1 ID : 264330605170
Option 2 ID : 264330605167
Option 3 ID : 264330605169
Option 4 ID : 264330605168
Status : Answered
Chosen Option : 3

Q.4 यदि 'A' का अर्थ '×', 'B' का अर्थ '÷', 'C' का अर्थ '+' और 'D' का अर्थ '-' है, तो निम्नलिखित समीकरण में प्रश्न चिन्ह (?) के स्थान पर क्या आएगा?
27 B 3 C (54 A 2) B 5 D 55 = ?

- Ans**
- ✗ 1. 153
 - ✗ 2. 167
 - ✓ 3. 161
 - ✗ 4. 159

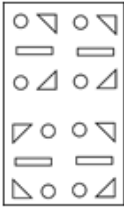
Question ID : 264330151787
Option 1 ID : 264330594776
Option 2 ID : 264330594778
Option 3 ID : 264330594775
Option 4 ID : 264330594777
Status : Answered
Chosen Option : 3

Q.5 निम्नलिखित आकृतियों में एक कागज़ के टुकड़े को मोड़ने के क्रम और मुड़े हुए कागज़ को काटने के तरीके को दर्शाया गया है। खोलने पर यह कागज़ कैसा दिखाई देगा?

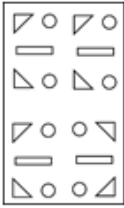


Ans

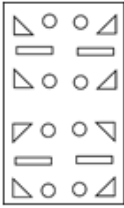
✗ 1.



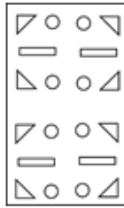
✗ 2.



✗ 3.



✓ 4.



Question ID : 264330155611

Option 1 ID : 264330609848

Option 2 ID : 264330609847

Option 3 ID : 264330609849

Option 4 ID : 264330609850

Status : Answered

Chosen Option : 4

Q.6 दी गई श्रृंखला में प्रश्न चिह्न '?' के स्थान पर क्या आना चाहिए?

108 103 98 93 88 ?

Ans

✓ 1. 83

✗ 2. 82

✗ 3. 84

✗ 4. 81

Question ID : 264330151550

Option 1 ID : 264330593829

Option 2 ID : 264330593828

Option 3 ID : 264330593830

Option 4 ID : 264330593827

Status : Answered

Chosen Option : 1

Q.7 एक निश्चित तर्क के अनुसार 2, 5 से संबंधित है। समान तर्क के अनुसार, 6, 37 से संबंधित है। समान तर्क का अनुसरण करते हुए 9 निम्नलिखित में से किससे संबंधित है?

- Ans
- 1. 84
 - 2. 83
 - 3. 82
 - 4. 81

Question ID : 264330151595
Option 1 ID : 264330594010
Option 2 ID : 264330594009
Option 3 ID : 264330594008
Option 4 ID : 264330594007
Status : Answered
Chosen Option : 3

Q.8 एक निश्चित कूट भाषा में, 'CRAFT' को 'DSBGL' लिखा जाता है और 'FRIDAY' को 'GSJEBZ' लिखा जाता है। उस कूट भाषा में 'MANGO' को कैसे लिखा जाएगा?

- Ans
- 1. MCOGP
 - 2. NCOGQ
 - 3. NBOHP
 - 4. MBPGQ

Question ID : 264330155811
Option 1 ID : 264330610649
Option 2 ID : 264330610647
Option 3 ID : 264330610650
Option 4 ID : 264330610648
Status : Answered
Chosen Option : 3

Q.9 एक निश्चित कूट भाषा में, 'DROP' को '9375' लिखा जाता है और 'POND' को '7839' लिखा जाता है। उसी कूट भाषा में 'N' को कैसे लिखा जाएगा?

- Ans
- 1. 3
 - 2. 8
 - 3. 7
 - 4. 9

Question ID : 264330151710
Option 1 ID : 264330594467
Option 2 ID : 264330594470
Option 3 ID : 264330594468
Option 4 ID : 264330594469
Status : Answered
Chosen Option : 2

Q.10 यदि '+' और '-' को आपस में बदल दिया जाए तथा '×' और '÷' को आपस में बदल दिया जाए तो निम्नलिखित समीकरण में (?) के स्थान पर क्या आएगा?
 $83 + 17 ÷ 4 - 64 × 16 = ?$

- Ans
- 1. 9
 - 2. 19
 - 3. 18
 - 4. 29

Question ID : 264330155670
Option 1 ID : 264330610086
Option 2 ID : 264330610085
Option 3 ID : 264330610083
Option 4 ID : 264330610084
Status : Answered
Chosen Option : 2

Q.11 दी गई श्रृंखला में प्रश्न चिन्ह '?' के स्थान पर क्या आना चाहिए?

8 27 84 255 768 ?

- Ans
- 1. 2271
 - 2. 2307
 - 3. 2235
 - 4. 2297

Question ID : 264330151497
Option 1 ID : 264330593616
Option 2 ID : 264330593618
Option 3 ID : 264330593615
Option 4 ID : 264330593617
Status : Answered
Chosen Option : 2

Q.12 यदि 4 दिसंबर 1987 को शुक्रवार है, तो 12 दिसंबर 2009 को सप्ताह का कौन-सा दिन होगा?

- Ans
- 1. शुक्रवार
 - 2. बुधवार
 - 3. रविवार
 - 4. शनिवार

Question ID : 264330154357
Option 1 ID : 264330604892
Option 2 ID : 264330604891
Option 3 ID : 264330604894
Option 4 ID : 264330604893
Status : Answered
Chosen Option : 4

Q.13 नीचे दिए गए कथनों और निष्कर्षों को ध्यानपूर्वक पढ़िए। आपको मानना है कि दिए गए कथन सत्य हैं चाहे वे समान्यतः ज्ञात तथ्यों से अलग प्रतीत होते हों। आपको निश्चय करना है कि कौन-सा/कौन-से निष्कर्ष तार्किक रूप से दिए गए कथनों के अनुसार है/हैं।

कथन: कुछ अक्षर, कुर्सियाँ हैं। कुछ कुर्सियाँ, ऊँची हैं। सभी ऊँची, इमारतें हैं।

निष्कर्ष I: कुछ अक्षर, इमारतें हैं।

निष्कर्ष II: कुछ ऊँची, इमारतें हैं।

- Ans**
- 1. दोनों निष्कर्ष (I) और (II) कथनों के अनुसार हैं।
 - 2. केवल निष्कर्ष (II) कथनों के अनुसार है।
 - 3. न तो निष्कर्ष (I) और न ही (II) कथनों के अनुसार है।
 - 4. केवल निष्कर्ष (I) कथनों के अनुसार है।

Question ID : 264330155924

Option 1 ID : 264330611102

Option 2 ID : 264330611100

Option 3 ID : 264330611101

Option 4 ID : 264330611099

Status : Answered

Chosen Option : 2

Q.14 अंग्रेजी वर्णमाला क्रम के आधार पर दी गई श्रृंखला में प्रश्न चिह्न (?) के स्थान पर क्या आना चाहिए?

JVC, LXD, NZE, PBF, ?

- Ans**
- 1. QDH
 - 2. SCH
 - 3. RDG
 - 4. QCF

Question ID : 264330155772

Option 1 ID : 264330610493

Option 2 ID : 264330610494

Option 3 ID : 264330610492

Option 4 ID : 264330610491

Status : Answered

Chosen Option : 3

Q.15 अंग्रेजी वर्णमाला क्रम के आधार पर दी गई श्रृंखला में प्रश्न चिह्न (?) के स्थान पर क्या आना चाहिए?

BPR, FRV, JTZ, NVD, ?

- Ans**
- 1. QXG
 - 2. RXH
 - 3. SXI
 - 4. QYG

Question ID : 264330155780

Option 1 ID : 264330610524

Option 2 ID : 264330610526

Option 3 ID : 264330610523

Option 4 ID : 264330610525

Status : Answered

Chosen Option : 2

Q.16 यदि निम्नलिखित आकृति श्रृंखला को जारी रखना हो तो कौन-सी आकृति प्रश्न चिह्न (?) के स्थान पर आनी चाहिए?

A	<input type="checkbox"/>	<input type="checkbox"/>	A	E	D	D	E	
E	3		C	E	<input type="checkbox"/>	C	A	<input type="checkbox"/>
C	D	D	3	A	8	8	C	?

Ans

✓ 1.

<input type="checkbox"/>		8
	D	A
E	☆	

✗ 2.

<input type="checkbox"/>		8
	E	D
A	☆	

✗ 3.

<input type="checkbox"/>		☆
	D	A
C	8	

✗ 4.

☆		8
	E	C
A	<input type="checkbox"/>	

Question ID : 264330154766

Option 1 ID : 264330606530

Option 2 ID : 264330606528

Option 3 ID : 264330606527

Option 4 ID : 264330606529

Status : Answered

Chosen Option : 1

Q.17 अंग्रेजी वर्णमाला क्रम के आधार पर दी गई श्रृंखला में प्रश्न चिह्न (?) के स्थान पर क्या आना चाहिए?

ZKP, DHR, HET, LBV, ?

Ans ✓ 1. PYX

✗ 2. RYX

✗ 3. QZY

✗ 4. QYZ

Question ID : 264330155802

Option 1 ID : 264330610612

Option 2 ID : 264330610613

Option 3 ID : 264330610611

Option 4 ID : 264330610614

Status : Answered

Chosen Option : 1

Q.18 रंजन, परी, यश, चारू, रीतू और गुंजन एक वृत्ताकार मेज के चारों ओर केंद्र की ओर मुख करके बैठे हैं। रंजन, परी के बाईं ओर से तीसरे स्थान पर बैठा है। यश, रंजन के बाईं ओर से दूसरे स्थान पर बैठा है। चारू, रंजन के दाईं ओर से दूसरे स्थान पर बैठी है। रीतू, चारू की निकटतम पड़ोसी है। परी के दाईं ओर से दूसरे स्थान पर कौन बैठा/बैठी है?

Ans ✓ 1. गुंजन

✗ 2. यश

✗ 3. चारू

✗ 4. रीतू

Question ID : 264330155655

Option 1 ID : 264330610023

Option 2 ID : 264330610025

Option 3 ID : 264330610026

Option 4 ID : 264330610024

Status : Answered

Chosen Option : 1

Q.19 उस समुच्चय को चुनिए जिसमें संख्याएँ ठीक उसी प्रकार संबंधित हैं जिस प्रकार निम्नलिखित समुच्चयों की संख्याएँ संबंधित हैं।

(ध्यान दें: संख्याओं को उनके घटक अंकों में अलग-अलग किए बिना, पूर्ण संख्याओं पर संक्रियाएँ की जानी चाहिए। उदा. 13 - संख्या 13 पर संक्रियाएँ जैसे 13 को जोड़ना/घटाना/गुणा करना आदि किया जा सकता है। 13 को 1 और 3 में अलग-अलग करने की ओर फिर 1 और 3 पर गणितीय संक्रियाएँ करने की अनुमति नहीं है।)

(32, 99, 67)

(22, 77, 55)

Ans ✓ 1. 23, 87, 64

✗ 2. 53, 98, 33

✗ 3. 12, 45, 14

✗ 4. 35, 87, 12

Question ID : 264330151613

Option 1 ID : 264330594080

Option 2 ID : 264330594082

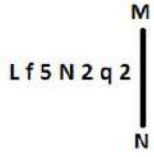
Option 3 ID : 264330594079

Option 4 ID : 264330594081

Status : Answered

Chosen Option : 1

Q.20 दी गई आकृति के उस सही दर्पण प्रतिबिंब को चुनिए, जो नीचे दर्शाए गए अनुसार दर्पण को MN पर रखने पर बनेगा।



- Ans
- 1. q 2 5 N 2 f L
 - 2. 5 p 5 N 2 f J
 - 3. 5 p 2 N 2 f J
 - 4. 5 p 2 N 5 f J

Question ID : 264330151522

Option 1 ID : 264330593716

Option 2 ID : 264330593717

Option 3 ID : 264330593718

Option 4 ID : 264330593715

Status : Answered

Chosen Option : 2

Section : General Awareness

Q.1 1931 में भारतीय राष्ट्रीय कांग्रेस द्वारा कौन-सा ध्वज अपनाया गया था?

- Ans
- 1. खादी द्वारा निर्मित चरखा चिन्ह वाला तिरंगा ध्वज
 - 2. कपड़े से निर्मित नीले रंग का ध्वज
 - 3. चरखा चिन्ह वाला एक रंग का ध्वज
 - 4. कपड़े द्वारा निर्मित चरखे वाला दो रंग का ध्वज

Question ID : 264330160880

Option 1 ID : 264330630853

Option 2 ID : 264330630852

Option 3 ID : 264330630851

Option 4 ID : 264330630854

Status : Answered

Chosen Option : 1

Q.2 जब किसी अर्थव्यवस्था की 'सीमा-पार आर्थिक गतिविधियों (trans-boundary economic activities)' और मूल्यहास पर विचार किया जाता है, तो समग्र आकलन (aggregate measure) को _____ के रूप में जाना जाता है।

- Ans
- 1. GDP
 - 2. NNP
 - 3. GNP
 - 4. PCI

Question ID : 264330166033

Option 1 ID : 264330651208

Option 2 ID : 264330651209

Option 3 ID : 264330651207

Option 4 ID : 264330651210

Status : Answered

Chosen Option : 2

Q.3 पथ या सड़क विक्रेताओं (street vendors) के वित्तीय समावेशन के लिए भारत सरकार द्वारा शुरू की गई योजना का नाम क्या है, जिसकी वर्षगांठ का समारोह 9 जुलाई से 31 जुलाई 2022 तक आयोजित किया गया था?

- Ans
- 1. पीएम आवासनिधि योजना (PM AVASNidhi Scheme)
 - 2. पीएम स्वाधीन योजना (PM SVAdhin Scheme)
 - 3. पीएम स्वनिधि योजना (PM SVANidhi Scheme)
 - 4. पीएम स्वाधार योजना (PM SVAdhar Scheme)

Question ID : 264330161411
Option 1 ID : 264330632971
Option 2 ID : 264330632973
Option 3 ID : 264330632972
Option 4 ID : 264330632974
Status : Answered
Chosen Option : 3

Q.4 भारत में राष्ट्रीय खेल दिवस किस तिथि को मनाया जाता है?

- Ans
- 1. 6 दिसंबर
 - 2. 29 अगस्त
 - 3. 14 नवंबर
 - 4. 1 सितंबर

Question ID : 264330158233
Option 1 ID : 264330620294
Option 2 ID : 264330620291
Option 3 ID : 264330620293
Option 4 ID : 264330620292
Status : Answered
Chosen Option : 2

Q.5 तमिलनाडु के _____ ने मार्च 2023 में दूसरी एएफआई राष्ट्रीय कूद प्रतियोगिता (AFI National Jumps Competition) में पुरुषों की लंबी कूद में राष्ट्रीय रिकॉर्ड बनाया।

- Ans
- 1. सुरेश बाबू
 - 2. मुरली श्रीशंकर
 - 3. जेस्विन एल्लिन
 - 4. अनीस याहिया

Question ID : 264330161440
Option 1 ID : 264330633090
Option 2 ID : 264330633087
Option 3 ID : 264330633088
Option 4 ID : 264330633089
Status : Answered
Chosen Option : 2

Q.6 नीति आयोग (NITI Aayog) की पहली बहुआयामी गरीबी सूचकांक (MPI) 2021 रिपोर्ट के अनुसार, भारत में कौन-सा राज्य चौथे स्थान पर है?

- Ans 1. मध्य प्रदेश
 2. मेघालय
 3. असम
 4. हिमाचल प्रदेश

Question ID : 264330166020
Option 1 ID : 264330651157
Option 2 ID : 264330651156
Option 3 ID : 264330651155
Option 4 ID : 264330651158
Status : Not Answered
Chosen Option : --

Q.7 हमारे पहले प्रधान मंत्री कौन थे?

- Ans 1. जवाहर लाल नेहरू
 2. इंदिरा गांधी
 3. राजेन्द्र प्रसाद
 4. गुलजारीलाल नंदा

Question ID : 264330159912
Option 1 ID : 264330626997
Option 2 ID : 264330626995
Option 3 ID : 264330626996
Option 4 ID : 264330626998
Status : Answered
Chosen Option : 1

Q.8 निम्नलिखित युगों में से कौन-सा युग दो अदिश राशियों को दर्शाता है?

- Ans 1. दूरी और चाल
 2. विद्युत क्षेत्र और बल
 3. रेखीय संवेग और त्वरण
 4. संवेग और कोणीय वेग

Question ID : 264330157781
Option 1 ID : 264330618486
Option 2 ID : 264330618485
Option 3 ID : 264330618483
Option 4 ID : 264330618484
Status : Answered
Chosen Option : 3

Q.9 स्टैच्यू ऑफ यूनिटी निम्नलिखित में से किस राज्य में स्थित है?

- Ans 1. राजस्थान
 2. गुजरात
 3. पंजाब
 4. महाराष्ट्र

Question ID : 264330160774
Option 1 ID : 264330630429
Option 2 ID : 264330630428
Option 3 ID : 264330630427
Option 4 ID : 264330630430
Status : Answered
Chosen Option : 2

Q.10 'विंग्स ऑफ फायर (Wings of Fire)' भारत के किस पूर्व राष्ट्रपति की आत्मकथा है?

- Ans 1. ए. पी. जे. अब्दुल कलाम
 2. वी. वी. गिरि
 3. शंकर दयाल शर्मा
 4. जाकिर हुसैन

Question ID : 264330160963
Option 1 ID : 264330631184
Option 2 ID : 264330631185
Option 3 ID : 264330631186
Option 4 ID : 264330631183
Status : Answered
Chosen Option : 1

Q.11 भारतीय सविधान की कौन-सी अनुसूची संघ और राज्यों (Union and the states) के बीच शक्तियों के विभाजन से संबंधित है?

- Ans 1. दूसरी
 2. पांचवीं
 3. नौवीं
 4. सातवीं

Question ID : 264330159896
Option 1 ID : 264330626931
Option 2 ID : 264330626932
Option 3 ID : 264330626934
Option 4 ID : 264330626933
Status : Answered
Chosen Option : 4

Q.12 भारत के निम्नलिखित पार्श्व गायकों में से किसे 2009 में पद्म श्री और 2016 में पद्म भूषण प्राप्त हुआ?

- Ans 1. उदित नारायण झा
 2. कुमार शानू भट्टाचार्य
 3. सोनू निगम
 4. अभिजीत भट्टाचार्य

Question ID : 264330161769
Option 1 ID : 264330634405
Option 2 ID : 264330634404
Option 3 ID : 264330634406
Option 4 ID : 264330634403
Status : Not Answered
Chosen Option : --

Q.13 निम्नलिखित में से कौन-सी पर्वतमाला राजस्थान राज्य से सम्बंधित है?

- Ans
- 1. विंध्य पर्वतमाला
 - 2. सतपुड़ा पर्वतमाला
 - 3. सह्याद्रि पर्वतमाला
 - 4. अरावली पर्वतमाला

Question ID : 264330161530

Option 1 ID : 264330633449

Option 2 ID : 264330633447

Option 3 ID : 264330633450

Option 4 ID : 264330633448

Status : Answered

Chosen Option : 4

Q.14 निम्नलिखित में से 'रिवोल्यूशन 2020' (Revolution 2020) पुस्तक के लेखक कौन हैं?

- Ans
- 1. चेतन भगत
 - 2. सिद्धार्थ सरमा
 - 3. उमर अहमद
 - 4. जाँय गोस्वामी

Question ID : 264330155459

Option 1 ID : 264330609239

Option 2 ID : 264330609241

Option 3 ID : 264330609240

Option 4 ID : 264330609242

Status : Answered

Chosen Option : 1

Q.15 निम्नलिखित में से क्या प्रयोज्य आय (disposable income) को दर्शाता है?

- Ans
- 1. किसी अर्थव्यवस्था में व्यवसायों और निगमों द्वारा अर्जित कुल आय
 - 2. करों और अन्य कटौतियों से पहले व्यक्तियों और परिवारों द्वारा अर्जित कुल आय
 - 3. व्यक्तियों द्वारा अपने स्वयं के व्यवसाय या स्वरोजगार के माध्यम से अर्जित आय
 - 4. करों और अन्य कटौतियों के बाद व्यक्तियों और परिवारों द्वारा अर्जित आय

Question ID : 264330157319

Option 1 ID : 264330616639

Option 2 ID : 264330616640

Option 3 ID : 264330616642

Option 4 ID : 264330616641

Status : Not Answered

Chosen Option : --

Q.16 FIFA U-17 महिला विश्व कप 2022 में कितने देशों ने भाग लिया?

Ans 1. 16

2. 14

3. 18

4. 12

Question ID : 264330158227

Option 1 ID : 264330620269

Option 2 ID : 264330620268

Option 3 ID : 264330620270

Option 4 ID : 264330620267

Status : Answered

Chosen Option : 2

Q.17 निम्नलिखित में से किस राज्य में शीत ऋतु के दौरान वर्षा होती है?

Ans 1. महाराष्ट्र

2. तमिलनाडु

3. झारखंड

4. राजस्थान

Question ID : 264330161308

Option 1 ID : 264330632561

Option 2 ID : 264330632562

Option 3 ID : 264330632559

Option 4 ID : 264330632560

Status : Answered

Chosen Option : 2

Q.18 निम्नलिखित में से कौन-सा विटामिन/पोषक तत्व नवजात शिशु के मस्तिष्क और रीढ़ की हड्डी के प्रमुख जन्म दोषों को रोकता है?

Ans 1. विटामिन E

2. विटामिन A

3. फोलिक अम्ल

4. विटामिन C

Question ID : 264330156611

Option 1 ID : 264330613833

Option 2 ID : 264330613831

Option 3 ID : 264330613834

Option 4 ID : 264330613832

Status : Answered

Chosen Option : 4

Q.19 प्रसिद्ध _____ लोक नृत्य कलाकार डोमार सिंह कुंवर (Domar Singh Kunwar), जिन्होंने पांच दशकों से अधिक समय तक नृत्य की परंपरा को संरक्षित करने के लिए अपना जीवन समर्पित किया है, को पद्म श्री 2023 से सम्मानित किया गया।

- Ans
- 1. पंडवानी (Pandwani)
 - 2. नाट्य नाचा (Natya Nacha)
 - 3. राऊत नाचा (Raut Nacha)
 - 4. सूवा (Soowa)

Question ID : 264330160803
Option 1 ID : 264330630544
Option 2 ID : 264330630543
Option 3 ID : 264330630545
Option 4 ID : 264330630546
Status : Not Answered
Chosen Option : --

Q.20 निम्नलिखित में से किस संगीत निर्देशक ने वर्ष 2009 में ऑस्कर पुरस्कार जीता?

- Ans
- 1. बप्पी लहरी
 - 2. राजेश रोशन
 - 3. ए.आर. रहमान
 - 4. विशाल भारद्वाज

Question ID : 264330155503
Option 1 ID : 264330609417
Option 2 ID : 264330609416
Option 3 ID : 264330609415
Option 4 ID : 264330609418
Status : Answered
Chosen Option : 3

Q.21 राष्ट्रीय बहुआयामी गरीबी सूचकांक 2021 के अनुसार, किस राज्य की जनसंख्या का बहुआयामी गरीब प्रतिशत सबसे कम है?

- Ans
- 1. केरल
 - 2. मध्यप्रदेश
 - 3. राजस्थान
 - 4. उत्तरप्रदेश

Question ID : 264330160169
Option 1 ID : 264330628018
Option 2 ID : 264330628015
Option 3 ID : 264330628016
Option 4 ID : 264330628017
Status : Answered
Chosen Option : 1

Q.22 कौन-सा त्योहार छत्तीसगढ़ और ओडिशा की मिश्रित समृद्ध संस्कृति को सामने लाता है?

- Ans
- 1. रथयात्रा (Rath Yatra)
 - 2. माधवपुर मेला (Madhavpur fair)
 - 3. बस्तर गोंचा (Bastar Goncha)
 - 4. शूलिनी मेला (Shoolini fair)

Question ID : 264330159083
Option 1 ID : 264330623693
Option 2 ID : 264330623694
Option 3 ID : 264330623692
Option 4 ID : 264330623691
Status : Answered
Chosen Option : 1

Q.23 निम्नलिखित में से कुचिपुड़ी की श्री साईं नटराज अकादमी (Sri Sai Nataraja Academy of Kuchipudi) के संस्थापक सदस्य कौन थे जो कुचिपुड़ी में प्रशिक्षण और उच्च शिक्षा प्रदान करती है?

- Ans
- 1. कौशल्या रेड्डी
 - 2. पी रमादेवी
 - 3. यामिनी कृष्णमूर्ति
 - 4. अपर्णा सतीसन

Question ID : 264330155483
Option 1 ID : 264330609336
Option 2 ID : 264330609337
Option 3 ID : 264330609335
Option 4 ID : 264330609338
Status : Answered
Chosen Option : 3

Q.24 भारत रक्षा अधिनियम (Defence of India Act) कब लागू किया गया था?

- Ans
- 1. 1920
 - 2. 1921
 - 3. 1918
 - 4. 1915

Question ID : 264330160878
Option 1 ID : 264330630845
Option 2 ID : 264330630846
Option 3 ID : 264330630844
Option 4 ID : 264330630843
Status : Not Answered
Chosen Option : --

Q.25 वसंत ऋतु के आगमन पर _____ गांव 'बागुरुम्बा (Bagurumba)' के मधुर गायन से झूम उठता है।

- Ans
- 1. कार्बी (Karbi)
 - 2. खासी (Khasi)
 - 3. गारो (Garo)
 - 4. बोडो (Bodo)

Question ID : 264330160796

Option 1 ID : 264330630518

Option 2 ID : 264330630515

Option 3 ID : 264330630517

Option 4 ID : 264330630516

Status : Marked For Review

Chosen Option : 1

Section : English Language and Comprehension

Q.1 Select the most appropriate idiom to fill in the blank.
Rahul speaks easily in front of a small group, but he seems _____ before a large audience.

- Ans
- 1. ill-disposed to
 - 2. man of ill repute
 - 3. think ill of
 - 4. ill at ease

Question ID : 264330153103

Option 1 ID : 264330599978

Option 2 ID : 264330599975

Option 3 ID : 264330599976

Option 4 ID : 264330599977

Status : Answered

Chosen Option : 2

Q.2 Parts of the given sentence have been underlined. One of them contains an error. The underlined parts are given as options with some changes. Select the option that correctly rectifies the error.

Sohan is the older brother of my best friend.

- Ans
- 1. to my
 - 2. elder
 - 3. good
 - 4. an

Question ID : 264330153173

Option 1 ID : 264330600253

Option 2 ID : 264330600252

Option 3 ID : 264330600254

Option 4 ID : 264330600251

Status : Answered

Chosen Option : 2

Q.3 Select the most appropriate meaning of the given idiom.
Beat around the bush

- Ans**
- 1. To avoid people
 - 2. To have patience
 - 3. To talk about important things
 - 4. To avoid talking about what is important

Question ID : 264330152723
Option 1 ID : 264330598492
Option 2 ID : 264330598491
Option 3 ID : 264330598493
Option 4 ID : 264330598494
Status : Answered
Chosen Option : 4

Q.4 Identify and correct the INCORRECTLY spelt word in the given sentence.
Sliding each bead from one side to the other, the student used the abacus to count out the number of days in a week.

- Ans**
- 1. number
 - 2. beed
 - 3. Slaiding
 - 4. abacuss

Question ID : 264330153598
Option 1 ID : 264330601882
Option 2 ID : 264330601880
Option 3 ID : 264330601879
Option 4 ID : 264330601881
Status : Answered
Chosen Option : 1

Q.5 Select the most appropriate meaning of the underlined segment in the given sentence.
I can't believe you let the cat out of the bag about my surprise party!

- Ans**
- 1. Ask a question
 - 2. Make a joke
 - 3. Keep a secret
 - 4. Reveal a secret

Question ID : 264330152684
Option 1 ID : 264330598342
Option 2 ID : 264330598341
Option 3 ID : 264330598339
Option 4 ID : 264330598340
Status : Answered
Chosen Option : 4

Q.6 There is a spelling error in the given sentence. Select the option that contains the **INCORRECTLY** spelt word.

As per manager's opinion, the laser sprinkler malfunctioned.

Ans 1. malfunctioned

2. laser

3. sprinkler

4. opinion

Question ID : 264330152840

Option 1 ID : 264330598954

Option 2 ID : 264330598952

Option 3 ID : 264330598953

Option 4 ID : 264330598951

Status : Answered

Chosen Option : 1

Q.7 Select the most appropriate option that can substitute the underlined word in the following sentence.

They serve stuffed garlic bread and molten chocolate in the birthday party of their son, Parth, last week.

Ans 1. are serving

2. served

3. be served

4. serves

Question ID : 264330152576

Option 1 ID : 264330597910

Option 2 ID : 264330597909

Option 3 ID : 264330597908

Option 4 ID : 264330597907

Status : Answered

Chosen Option : 2

Q.8 Select the most appropriate idiom for the following sentence.

He made the business profitable from unprofitable in about a year of joining.

Ans 1. Still waters run deep

2. Throw up

3. Where there is a will, there is a way

4. Easy come, easy go

Question ID : 264330141304

Option 1 ID : 264330553553

Option 2 ID : 264330553552

Option 3 ID : 264330553554

Option 4 ID : 264330553551

Status : Answered

Chosen Option : 3

Q.9 Parts of the following sentence have been underlined and given as options. Select the option that contains a misspelt word.

Obesity is rapidly becoming the leading cause of prevantable deaths in the United States.

- Ans
- 1. rapidly
 - 2. obesity
 - 3. prevantable
 - 4. leading

Question ID : 264330151837
Option 1 ID : 264330594976
Option 2 ID : 264330594975
Option 3 ID : 264330594978
Option 4 ID : 264330594977
Status : Answered
Chosen Option : 3

Q.10 Parts of the following sentence have been underlined and given as options. Select the option that contains an error.

We think of the past history of the world as fixed but of the future as undecided and open to a wealth off possibilities.

- Ans
- 1. as fixed
 - 2. as undecided
 - 3. wealth off
 - 4. of the past

Question ID : 264330153203
Option 1 ID : 264330600372
Option 2 ID : 264330600374
Option 3 ID : 264330600373
Option 4 ID : 264330600371
Status : Answered
Chosen Option : 3

Q.11 Select the most appropriate ANTONYM of the given word.
Amiable

- Ans
- 1. Unfriendly
 - 2. Joyful
 - 3. Sad
 - 4. Restless

Question ID : 264330151914
Option 1 ID : 264330595271
Option 2 ID : 264330595274
Option 3 ID : 264330595272
Option 4 ID : 264330595273
Status : Answered
Chosen Option : 1

Q.12 Select the most appropriate option that can substitute the underlined segment in the given sentence. If there is no need to substitute it, select 'No improvement required'.
Newton, after seeing the apple falling from a tree, began to wonder whether if it moved towards the earth and not upwards towards the sky.

- Ans
- 1. No improvement required
 - 2. began to wonder why
 - 3. began to wondering if
 - 4. began his wondering how

Question ID : 264330152668
Option 1 ID : 264330598278
Option 2 ID : 264330598275
Option 3 ID : 264330598276
Option 4 ID : 264330598277
Status : Answered
Chosen Option : 2

Q.13 Select the most appropriate synonym of the given word.
Barbed

- Ans
- 1. Spiteful
 - 2. Kind
 - 3. Passive
 - 4. Gentle

Question ID : 264330151880
Option 1 ID : 264330595140
Option 2 ID : 264330595139
Option 3 ID : 264330595142
Option 4 ID : 264330595141
Status : Answered
Chosen Option : 1

Q.14 Parts of the following sentence have been underlined and given as options. Select the option that contains an error.

When I bought the book, I thought it will be interesting.

- Ans
- 1. thought
 - 2. will
 - 3. bought
 - 4. When

Question ID : 264330153190
Option 1 ID : 264330600321
Option 2 ID : 264330600322
Option 3 ID : 264330600320
Option 4 ID : 264330600319
Status : Answered
Chosen Option : 2

Q.15 Parts of the following sentence have been given as options. Select the option that contains an error.

My teacher told me that / all that / glitters was not gold.

- Ans
- 1. all that
 - 2. glitters was not gold
 - 3. My teacher told me that
 - 4. No error

Question ID : 264330155378
Option 1 ID : 264330608928
Option 2 ID : 264330608929
Option 3 ID : 264330608927
Option 4 ID : 264330608930
Status : Answered
Chosen Option : 2

Q.16 Select the most appropriate synonym of the given word.
Peril

- Ans
- 1. Joke
 - 2. Entertainment
 - 3. Danger
 - 4. Ignorance

Question ID : 264330152748
Option 1 ID : 264330598591
Option 2 ID : 264330598592
Option 3 ID : 264330598593
Option 4 ID : 264330598594
Status : Answered
Chosen Option : 3

Q.17 Select the most appropriate option that can substitute the underlined segment in the given sentence. If there is no need to substitute it, select 'No improvement required'.
Very early in the morning, at the beginning of January, Opu was lying in bed waiting for the sun having rose.

- Ans
- 1. waited for the sun rising
 - 2. waiting for the sun to rise
 - 3. No improvement required
 - 4. waited for the sun having rose

Question ID : 264330152669
Option 1 ID : 264330598281
Option 2 ID : 264330598280
Option 3 ID : 264330598282
Option 4 ID : 264330598279
Status : Answered
Chosen Option : 2

Q.18 Select the option that can be used as a one-word substitute for the given group of words.

Endless period of time

- Ans 1. Eternity
 2. Frailty
 3. Longevity
 4. Impurity

Question ID : 264330153639
Option 1 ID : 264330602030
Option 2 ID : 264330602027
Option 3 ID : 264330602029
Option 4 ID : 264330602028
Status : Answered
Chosen Option : 1

Q.19 Select the option that can be used as a one-word substitute for the given group of words.

A person who is kept captive for fulfilment of demands of money or conditions.

- Ans 1. Hostage
 2. Scion
 3. Doyen
 4. Bait

Question ID : 264330151811
Option 1 ID : 264330594874
Option 2 ID : 264330594872
Option 3 ID : 264330594873
Option 4 ID : 264330594871
Status : Answered
Chosen Option : 1

Q.20 Choose the sentence that contains an error.

- Ans 1. He is chef who specialises in Italian cuisine.
 2. The Earth revolves around the Sun.
 3. I love the taste of fresh strawberries in the summer.
 4. She is the winner of the Nobel Peace Prize.

Question ID : 264330155181
Option 1 ID : 264330608186
Option 2 ID : 264330608183
Option 3 ID : 264330608184
Option 4 ID : 264330608185
Status : Marked For Review
Chosen Option : 1

Comprehension:

In the following passage, some words have been deleted. Read the passage carefully and select the most appropriate option to fill in each blank.

Education should be free to all because it is a (1)__ human right. It is essential for the (2)__ of a fully functioning society and for the advancement of humanity. While some argue that education should not be free because it has value or that free education would be a (3)__ on taxpayers, the reality is that education is a public good that (4)__ everyone in society. Not only does education provide individuals with the skills and knowledge they need to participate in the workforce, but it also improves social cohesion and creates more (5)__ citizens.

SubQuestion No : 21

Q.21 Select the most appropriate option to fill in blank number 1.

Ans ✓ 1. fundamental

✗ 2. precious

✗ 3. joyful

✗ 4. lovely

Question ID : 264330153569

Option 1 ID : 264330601773

Option 2 ID : 264330601772

Option 3 ID : 264330601774

Option 4 ID : 264330601771

Status : Answered

Chosen Option : 1

Comprehension:

In the following passage, some words have been deleted. Read the passage carefully and select the most appropriate option to fill in each blank.

Education should be free to all because it is a (1)__ human right. It is essential for the (2)__ of a fully functioning society and for the advancement of humanity. While some argue that education should not be free because it has value or that free education would be a (3)__ on taxpayers, the reality is that education is a public good that (4)__ everyone in society. Not only does education provide individuals with the skills and knowledge they need to participate in the workforce, but it also improves social cohesion and creates more (5)__ citizens.

SubQuestion No : 22

Q.22 Select the most appropriate option to fill in blank number 2.

Ans ✗ 1. distribution

✗ 2. enthusiasm

✗ 3. celebration

✓ 4. development

Question ID : 264330153570

Option 1 ID : 264330601777

Option 2 ID : 264330601778

Option 3 ID : 264330601775

Option 4 ID : 264330601776

Status : Answered

Chosen Option : 4

Comprehension:

In the following passage, some words have been deleted. Read the passage carefully and select the most appropriate option to fill in each blank.

Education should be free to all because it is a (1)__ human right. It is essential for the (2)__ of a fully functioning society and for the advancement of humanity. While some argue that education should not be free because it has value or that free education would be a (3)__ on taxpayers, the reality is that education is a public good that (4)__ everyone in society. Not only does education provide individuals with the skills and knowledge they need to participate in the workforce, but it also improves social cohesion and creates more (5)__ citizens.

SubQuestion No : 23

Q.23 Select the most appropriate option to fill in blank number 3.

- Ans
- 1. blessing
 - 2. contentment
 - 3. burden
 - 4. focus

Question ID : 264330153571

Option 1 ID : 264330601779

Option 2 ID : 264330601781

Option 3 ID : 264330601782

Option 4 ID : 264330601780

Status : Answered

Chosen Option : 3

Comprehension:

In the following passage, some words have been deleted. Read the passage carefully and select the most appropriate option to fill in each blank.

Education should be free to all because it is a (1)__ human right. It is essential for the (2)__ of a fully functioning society and for the advancement of humanity. While some argue that education should not be free because it has value or that free education would be a (3)__ on taxpayers, the reality is that education is a public good that (4)__ everyone in society. Not only does education provide individuals with the skills and knowledge they need to participate in the workforce, but it also improves social cohesion and creates more (5)__ citizens.

SubQuestion No : 24

Q.24 Select the most appropriate option to fill in blank number 4.

- Ans
- 1. emphasises
 - 2. benefits
 - 3. burdens
 - 4. sections

Question ID : 264330153572

Option 1 ID : 264330601784

Option 2 ID : 264330601786

Option 3 ID : 264330601785

Option 4 ID : 264330601783

Status : Answered

Chosen Option : 2

Comprehension:

In the following passage, some words have been deleted. Read the passage carefully and select the most appropriate option to fill in each blank.

Education should be free to all because it is a (1)___ human right. It is essential for the (2)___ of a fully functioning society and for the advancement of humanity. While some argue that education should not be free because it has value or that free education would be a (3)___ on taxpayers, the reality is that education is a public good that (4)___ everyone in society. Not only does education provide individuals with the skills and knowledge they need to participate in the workforce, but it also improves social cohesion and creates more (5)___ citizens.

SubQuestion No : 25

Q.25 Select the most appropriate option to fill in blank number 5.

- Ans
- 1. easy going
 - 2. apprehensive
 - 3. authentic
 - 4. productive

Question ID : 264330153573

Option 1 ID : 264330601790

Option 2 ID : 264330601787

Option 3 ID : 264330601788

Option 4 ID : 264330601789

Status : Answered

Chosen Option : 4

KD Job Updates

Multi Tasking Non Technical Staff and Havaladar CBIC and CBN Examination 2023

Roll Number	KD Job Updates
Candidate Name	KD Job Updates
Venue Name	iON Digital Zone iDZ 2 Bhauti
Exam Date	12/09/2023
Exam Time	4:00 PM - 6:00 PM
Subject	MTS Non Tech Havaladar CBIC and CBN Examination 2023

Section : Numerical and Mathematical Ability

Q.1 दी गई तालिका का अध्ययन कीजिए और नीचे दिए गए प्रश्न का उत्तर दीजिए।
तालिका में तीन दिनों में चार प्रिंटर द्वारा प्रिंट किए गए पृष्ठों की संख्या को दर्शाया गया है।

दिन	प्रिंटर			
	M	N	O	P
शुक्रवार	880	885	877	898
शनिवार	972	989	990	786
रविवार	980	790	782	690

यदि सभी प्रिंटरों द्वारा मिलाकर सोमवार को प्रिंट किए गए पृष्ठों की कुल संख्या, सभी प्रिंटरों द्वारा मिलाकर शुक्रवार को प्रिंट किए गए पृष्ठों की कुल संख्या से 15% अधिक थी, तो सभी प्रिंटरों द्वारा मिलाकर सोमवार को प्रिंट किए गए पृष्ठों की कुल संख्या कितनी थी?

- Ans
- 1. 4580
 - 2. 4128
 - 3. 4026
 - 4. 4071

Question ID : 264330157908

Option 1 ID : 264330618991

Option 2 ID : 264330618993

Option 3 ID : 264330618994

Option 4 ID : 264330618992

Status : Marked For Review

Chosen Option : 4

Q.2 आदित्य ने ₹630 प्रति थैले के मूल्य से दो थैले बेचे। एक थैले पर उसे 33% का लाभ होता है और दूसरे पर उसे 33% की हानि होती है। पूरे लेनदेन पर उसका लाभ या हानि प्रतिशत ज्ञात कीजिए।

- Ans
- 1. 10.89% हानि
 - 2. 12.37% हानि
 - 3. 10.89% लाभ
 - 4. 12.37% लाभ

Question ID : 264330155735

Option 1 ID : 264330610346

Option 2 ID : 264330610344

Option 3 ID : 264330610343

Option 4 ID : 264330610345

Status : Marked For Review

Chosen Option : 1

Q.3 निम्नलिखित व्यंजक को सरल कीजिए।
 $12 \times 6 \div [\{18 \div (6 - 3)\} - 3] + 6$

- Ans
- 1. 96
 - 2. 30
 - 3. 84
 - 4. 20

Question ID : 264330155945
Option 1 ID : 264330611182
Option 2 ID : 264330611181
Option 3 ID : 264330611179
Option 4 ID : 264330611180
Status : Marked For Review
Chosen Option : 2

Q.4 लखनऊ शताब्दी एक्सप्रेस वाराणसी से 3:30 p.m. पर निकलती है और उसी दिन 8:30 p.m. पर लखनऊ पहुँचती है। रेलगाड़ी की औसत चाल 140 km/h है। वाराणसी से लखनऊ की दूरी (km में) कितनी है?

- Ans
- 1. 675
 - 2. 700
 - 3. 725
 - 4. 750

Question ID : 264330156230
Option 1 ID : 264330612322
Option 2 ID : 264330612321
Option 3 ID : 264330612320
Option 4 ID : 264330612319
Status : Answered
Chosen Option : 2

Q.5 बहुपदों $(x^3 - 8)$, $(x^3 - 6x^2 + 12x - 8)$ और $(x^3 - 4x^2 + 4x)$ का महत्तम समापवर्तक ज्ञात कीजिए।

- Ans
- 1. $(x - 1)$
 - 2. $(x - 2)$
 - 3. $(x - 8)$
 - 4. $(x - 4)$

Question ID : 264330156204
Option 1 ID : 264330612215
Option 2 ID : 264330612216
Option 3 ID : 264330612218
Option 4 ID : 264330612217
Status : Answered
Chosen Option : 2

Q.6 10%, 15% और 20% की क्रमिक छूट के समतुल्य एकल छूट ज्ञात कीजिए।

- Ans
- 1. 42.20%
 - 2. 40.80%
 - 3. 39.20%.
 - 4. 38.80%

Question ID : 264330156362
Option 1 ID : 264330612847
Option 2 ID : 264330612848
Option 3 ID : 264330612849
Option 4 ID : 264330612850
Status : Answered
Chosen Option : 4

Q.7 एक नाव द्वारा धारा के प्रतिकूल x km की दूरी तय करने में लिया गया समय उसी नाव द्वारा धारा के अनुकूल समान दूरी तय करने में लिए गए समय का दुगुना है। नाव और धारा की चालों का योग 90 km/h है। धारा की चाल ____ km/h है।

- Ans
- 1. 22.5
 - 2. 37.5
 - 3. 27.5
 - 4. 33.5

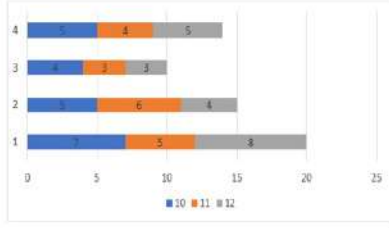
Question ID : 264330153813
Option 1 ID : 264330602716
Option 2 ID : 264330602717
Option 3 ID : 264330602718
Option 4 ID : 264330602715
Status : Answered
Chosen Option : 1

Q.8 1 cm त्रिज्या वाले एक स्टील के गोले को पिघलाकर 4 mm व्यास वाले तार में ढाला जाता है, तो तार की लंबाई कितनी है?

- Ans
- 1. $37\frac{1}{7}$ cm
 - 2. $31\frac{1}{3}$ cm
 - 3. $35\frac{1}{7}$ cm
 - 4. $33\frac{1}{3}$ cm

Question ID : 264330154109
Option 1 ID : 264330603901
Option 2 ID : 264330603899
Option 3 ID : 264330603902
Option 4 ID : 264330603900
Status : Marked For Review
Chosen Option : 4

Q.9 दंड आलेख में दिए गए चार अलग-अलग विद्यालयों 1, 2, 3 और 4 में कक्षा 10वीं, 11वीं और 12वीं में अनुत्तीर्ण होने वाले छात्रों के प्रतिशत पर विचार कीजिए।



विद्यालय 1 और विद्यालय 3 में प्रति कक्षा अनुत्तीर्ण होने वाले छात्रों के औसत प्रतिशत के बीच का अंतर _____ है।

Ans

✗ 1. $\frac{11}{3}$

✗ 2. $\frac{8}{3}$

✓ 3. $\frac{10}{3}$

✗ 4. $\frac{13}{3}$

Question ID : 264330153820

Option 1 ID : 264330602744

Option 2 ID : 264330602745

Option 3 ID : 264330602743

Option 4 ID : 264330602746

Status : Marked For Review

Chosen Option : 3

Q.10 एक विषय में, प्रैक्टिकल के लिए 40 अंक और थ्योरी के लिए 110 अंक हैं। एक अन्य विषय में, प्रैक्टिकल के लिए अंक 60 और थ्योरी के लिए अंक 40 हैं। यदि R को प्रैक्टिकल में औसतन 40 अंक और थ्योरी में औसतन 60 अंक मिलते हैं, तो उसके प्रति विषय औसत अंक _____ हैं।

Ans

✓ 1. 100

✗ 2. 60

✗ 3. 40

✗ 4. 80

Question ID : 264330153799

Option 1 ID : 264330602659

Option 2 ID : 264330602660

Option 3 ID : 264330602662

Option 4 ID : 264330602661

Status : Marked For Review

Chosen Option : 1

Q.11 17 और किसी अज्ञात संख्या का माध्यानुपात 51 है। वह अज्ञात संख्या क्या है?

- Ans
- 1. 17
 - 2. 51
 - 3. 151
 - 4. 153

Question ID : 264330154127
Option 1 ID : 264330603973
Option 2 ID : 264330603971
Option 3 ID : 264330603974
Option 4 ID : 264330603972
Status : Marked For Review
Chosen Option : 4

Q.12 पुरुषों की एक निश्चित संख्या किसी काम को 60 दिनों में पूरा करती है। यदि 8 पुरुष और बुला लिए जाएं, तो काम सामान्य से 10 दिन कम में समाप्त हो सकता है। मूल रूप से पुरुषों की संख्या कितनी थी?

- Ans
- 1. 50
 - 2. 30
 - 3. 60
 - 4. 40

Question ID : 264330156534
Option 1 ID : 264330613525
Option 2 ID : 264330613523
Option 3 ID : 264330613526
Option 4 ID : 264330613524
Status : Marked For Review
Chosen Option : 4

Q.13 यदि 7, x , 13, 16 और 9 का औसत 10 है, तो x का मान क्या है?

- Ans
- 1. 8
 - 2. 4
 - 3. 5
 - 4. 6

Question ID : 264330155952
Option 1 ID : 264330611207
Option 2 ID : 264330611210
Option 3 ID : 264330611208
Option 4 ID : 264330611209
Status : Marked For Review
Chosen Option : 3

Q.14 उस घनाभ का आयतन ज्ञात कीजिए जिसके आयाम 34 m, 7 m और 4 m हैं।

- Ans
- 1. 1904 m³
 - 2. 238 m³
 - 3. 476 m³
 - 4. 952 m³

Question ID : 264330153896

Option 1 ID : 264330603047

Option 2 ID : 264330603050

Option 3 ID : 264330603049

Option 4 ID : 264330603048

Status : Marked For Review

Chosen Option : 4

Q.15 एक वृत्ताकार डिस्क का भार, उसकी त्रिज्या के वर्ग और उसकी मोटाई के गुणनफल के अनुक्रमानुपाती है। दो समरूप/समान डिस्क की मोटाइयों का अनुपात 16 : 9 है। यदि पहली डिस्क का भार दूसरी डिस्क के भार से चार गुना है तो उनकी त्रिज्याओं का अनुपात क्या है?

- Ans
- 1. 1 : 2
 - 2. 2 : 1
 - 3. 3 : 2
 - 4. 2 : 3

Question ID : 264330153771

Option 1 ID : 264330602548

Option 2 ID : 264330602550

Option 3 ID : 264330602549

Option 4 ID : 264330602547

Status : Marked For Review

Chosen Option : 4

Q.16 एक विक्रेता ने एक सोफे का मूल्य उसके क्रय मूल्य से 25% अधिक अंकित किया। यदि वह ग्राहक को अंकित मूल्य पर 12% की छूट देता है, तो उसका लाभ प्रतिशत क्या है, साथ ही यदि सोफे का क्रय मूल्य ₹15,000 है, तो उसे कितनी धनराशि का लाभ हुआ?

- Ans
- 1. 10%; ₹1,500
 - 2. 9%; ₹1,480
 - 3. 9.5%; ₹1,600
 - 4. 8%; ₹1,350

Question ID : 264330156183

Option 1 ID : 264330612134

Option 2 ID : 264330612133

Option 3 ID : 264330612132

Option 4 ID : 264330612131

Status : Marked For Review

Chosen Option : 1

Q.17 चक्रवृद्धि ब्याज पर ₹15,000 की धनराशि पहले वर्ष, दूसरे वर्ष और तीसरे वर्ष के लिए क्रमशः 4%, 5%, 6% वार्षिक दर से 3 वर्ष के लिए ऋण पर दी गई थी, जो वार्षिक रूप से संयोजित होती है। 3 वर्ष का चक्रवृद्धि ब्याज ज्ञात कीजिए।

- Ans**
- 1. ₹2,382.60
 - 2. ₹2,362.80
 - 3. ₹2,380.60
 - 4. ₹2,380.80

Question ID : 264330153850

Option 1 ID : 264330602863

Option 2 ID : 264330602864

Option 3 ID : 264330602865

Option 4 ID : 264330602866

Status : Marked For Review

Chosen Option : 2

Q.18 एक निश्चित धनराशि पर 10% वार्षिक दर से दो वर्ष और तीन वर्ष के साधारण ब्याज में ₹500 का अंतर है। वह धनराशि ज्ञात कीजिए।

- Ans**
- 1. ₹5,000
 - 2. ₹5,500
 - 3. ₹4,500
 - 4. ₹6,000

Question ID : 264330156560

Option 1 ID : 264330613628

Option 2 ID : 264330613629

Option 3 ID : 264330613627

Option 4 ID : 264330613630

Status : Marked For Review

Chosen Option : 1

Q.19 A और B किसी काम को 10 दिनों में कर सकते हैं। B और C उसी काम को 15 दिनों में कर सकते हैं। यदि A, C से दुगुना अच्छा काम करता है, तो ज्ञात कीजिए कि B अकेले इस काम को कितने समय में पूरा कर सकता है (दिनों में)।

- Ans**
- 1. 25
 - 2. 10
 - 3. 30
 - 4. 20

Question ID : 264330156011

Option 1 ID : 264330611444

Option 2 ID : 264330611443

Option 3 ID : 264330611445

Option 4 ID : 264330611446

Status : Marked For Review

Chosen Option : 3

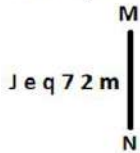
Q.20 50 विद्यार्थियों की एक कक्षा में 30 लड़कियां हैं जिन्होंने औसतन 88 अंक प्राप्त किए हैं। यदि कक्षा के औसत अंक 78 है, तो लड़कों के औसत अंक कितने हैं?

- Ans**
- 1. 80
 - 2. 72
 - 3. 63
 - 4. 83

Question ID : 264330156468
Option 1 ID : 264330613260
Option 2 ID : 264330613261
Option 3 ID : 264330613262
Option 4 ID : 264330613259
Status : Marked For Review
Chosen Option : 3

Section : Reasoning Ability and Problem Solving

Q.1 दी गई आकृति के उस सही दर्पण प्रतिबिंब को चुनिए, जो नीचे दर्शाए गए अनुसार दर्पण को MN पर रखने पर बनेगा।



- Ans**
- 1. m 7 2 p e l
 - 2. w 5 7 b e l
 - 3. m 7 2 p e l
 - 4. m 5 7 p e l

Question ID : 264330151511
Option 1 ID : 264330593672
Option 2 ID : 264330593673
Option 3 ID : 264330593674
Option 4 ID : 264330593671
Status : Marked For Review
Chosen Option : 4

Q.2 अंग्रेजी वर्णमाला क्रम के आधार पर दी गई श्रृंखला में प्रश्न चिह्न (?) के स्थान पर क्या आना चाहिए?

MCT, JEU, GGV, DIW, ?

- Ans**
- 1. BKZ
 - 2. AKX
 - 3. CJY
 - 4. BIY

Question ID : 264330155804
Option 1 ID : 264330610622
Option 2 ID : 264330610621
Option 3 ID : 264330610619
Option 4 ID : 264330610620
Status : Marked For Review
Chosen Option : 2

Q.3 एक निश्चित कूट भाषा में, 'just do it' को 'et ns kw' लिखा जाता है और 'do your best' को 'mb kw du' लिखा जाता है। उसी कूट भाषा में 'do' को कैसे लिखा जाएगा?

- Ans**
- ✓ 1. kw
 - ✗ 2. ns
 - ✗ 3. ct
 - ✗ 4. mb

Question ID : 264330151698

Option 1 ID : 264330594419

Option 2 ID : 264330594421

Option 3 ID : 264330594422

Option 4 ID : 264330594420

Status : Marked For Review

Chosen Option : 1

Q.4 एक निश्चित कूट भाषा में, 'TOP' को '22-17-18' लिखा जाता है और 'BIZ' को '4-11-28' लिखा जाता है। उस कूट भाषा में 'MAR' को कैसे लिखा जाएगा?

- Ans**
- ✓ 1. 15-3-20
 - ✗ 2. 16-5-20
 - ✗ 3. 15-5-21
 - ✗ 4. 14-4-21

Question ID : 264330155824

Option 1 ID : 264330610699

Option 2 ID : 264330610702

Option 3 ID : 264330610701

Option 4 ID : 264330610700

Status : Marked For Review

Chosen Option : 1

Q.5 एक निश्चित तर्क के अनुसार 78, 69 से संबंधित है। समान तर्क के अनुसार, 57, 48 से संबंधित है। समान तर्क का अनुसरण करते हुए 94 निम्नलिखित में से किससे संबंधित है?

- Ans**
- ✓ 1. 85
 - ✗ 2. 82
 - ✗ 3. 84
 - ✗ 4. 83

Question ID : 264330151603

Option 1 ID : 264330594042

Option 2 ID : 264330594039

Option 3 ID : 264330594041

Option 4 ID : 264330594040

Status : Marked For Review

Chosen Option : 1

Q.6 दी गई श्रृंखला में प्रश्न चिह्न '?' के स्थान पर क्या आना चाहिए?

15 26 48 81 125 ?

- Ans
- 1. 155
 - 2. 180
 - 3. 194
 - 4. 169

Question ID : 264330151716

Option 1 ID : 264330594493

Option 2 ID : 264330594492

Option 3 ID : 264330594494

Option 4 ID : 264330594491

Status : Marked For Review

Chosen Option : 2

Q.7 यदि '+' और '-' को आपस में बदल दिया जाए तथा 'x' और '÷' को आपस में बदल दिया जाए तो निम्नलिखित समीकरण में (?) के स्थान पर क्या आएगा?

$$29 \div 6 + 5 - 98 \times 2 = ?$$

- Ans
- 1. 220
 - 2. 218
 - 3. 219
 - 4. 217

Question ID : 264330154617

Option 1 ID : 264330605934

Option 2 ID : 264330605932

Option 3 ID : 264330605933

Option 4 ID : 264330605931

Status : Marked For Review

Chosen Option : 2

Q.8 निम्नलिखित संख्या-युग्मों में, पहली संख्या पर कुछ गणितीय संक्रियाएँ करके दूसरी संख्या प्राप्त की जाती है। उस समुच्चय को चुनिए जिसमें संख्याएँ ठीक उसी प्रकार संबंधित हैं जिस प्रकार निम्नलिखित समुच्चयों की संख्याएँ संबंधित हैं।
(ध्यान दें: संख्याओं को उनके घटक अंकों में अलग-अलग किए बिना, पूर्ण संख्याओं पर संक्रियाएँ की जानी चाहिए। उदा. 13 - संख्या 13 पर संक्रियाएँ जैसे 13 को जोड़ना/घटाना गुणा करना आदि किया जा सकता है। 13 को 1 और 3 में अलग-अलग करने की ओर फिर 1 और 3 पर गणितीय संक्रियाएँ करने की अनुमति नहीं है।)

$$12 : 44$$

$$8 : 28$$

- Ans
- 1. 10 : 38
 - 2. 15 : 35
 - 3. 7 : 28
 - 4. 9 : 32

Question ID : 264330154645

Option 1 ID : 264330606044

Option 2 ID : 264330606045

Option 3 ID : 264330606043

Option 4 ID : 264330606046

Status : Marked For Review

Chosen Option : 4

Q.9 दी गई श्रृंखला में प्रश्न चिह्न '?' के स्थान पर क्या आना चाहिए?

92 91 87 78 62 ?

Ans 1. 36

2. 37

3. 38

4. 35

Question ID : 264330151558

Option 1 ID : 264330593860

Option 2 ID : 264330593861

Option 3 ID : 264330593862

Option 4 ID : 264330593859

Status : Marked For Review

Chosen Option : 2

Q.10 यदि निम्नलिखित आकृति श्रृंखला को जारी रखना हो तो कौन-सी आकृति प्रश्न चिह्न (?) के स्थान पर आनी चाहिए?

N O S E	O N E S	V E X O	E V O X	?
△	X	N	△	
X	V V	△△	S S	N

Ans

1.

X	S	V	△
		E	
N			O

2.

X	△	V	N
		O	
E			S

3.

S	O	△	E
		V	
N			X

4.

X	O	△	N
		V	
E			S

Question ID : 264330154739

Option 1 ID : 264330606420

Option 2 ID : 264330606421

Option 3 ID : 264330606419

Option 4 ID : 264330606422

Status : Marked For Review

Chosen Option : 4

Q.11 यदि शब्द COMPUTER के प्रत्येक अक्षर को अंग्रेजी वर्णमाला के क्रम में व्यवस्थित किया जाए तो कितने अक्षरों का स्थान अपरिवर्तित रहेगा?

- Ans
- 1. तीन
 - 2. किसी का भी नहीं
 - 3. दो
 - 4. एक

Question ID : 264330156444

Option 1 ID : 264330613170

Option 2 ID : 264330613167

Option 3 ID : 264330613169

Option 4 ID : 264330613168

Status : Marked For Review

Chosen Option : 4

Q.12 यदि '+' और '-' को आपस में बदल दिया जाए तथा 'x' और '/' को आपस में बदल दिया जाए तो निम्नलिखित समीकरण में (?) के स्थान पर क्या आएगा?
 $105 \times 7 + 43 - 37 \div 3 = ?$

- Ans
- 1. 73
 - 2. 63
 - 3. 83
 - 4. 53

Question ID : 264330155666

Option 1 ID : 264330610068

Option 2 ID : 264330610067

Option 3 ID : 264330610069

Option 4 ID : 264330610070

Status : Marked For Review

Chosen Option : 3

Q.13 दी गई श्रृंखला में प्रश्न चिह्न '?' के स्थान पर क्या आना चाहिए?

124 114 104 94 84 ?

- Ans
- 1. 73
 - 2. 71
 - 3. 72
 - 4. 74

Question ID : 264330151551

Option 1 ID : 264330593833

Option 2 ID : 264330593831

Option 3 ID : 264330593832

Option 4 ID : 264330593834

Status : Marked For Review

Chosen Option : 4

Q.14 A, B, C, D, E, F, G और H एक वर्गाकार मेज के चारों ओर केन्द्र की ओर मुख करके बैठे हैं। उनमें से कुछ मेज के कोनों पर बैठे हैं जबकि कुछ भुजाओं के ठीक मध्य में बैठे हैं। H, B के बाईं ओर से तीसरे स्थान पर बैठा है। H किसी भी कोने में नहीं बैठा है। C, F के दाईं ओर से तीसरे स्थान पर बैठा है। C किसी एक कोने में बैठा है। D और E का निकटतम पड़ोसी H है। A, B का पड़ोसी नहीं है। E, A के ठीक बगल में बैठा है।
A के बाईं ओर से गिनने पर A और H के बीच में कितने व्यक्ति बैठे हैं?

- Ans**
- 1. छः
 - 2. चार
 - 3. तीन
 - 4. पांच

Question ID : 264330155538

Option 1 ID : 264330609558

Option 2 ID : 264330609556

Option 3 ID : 264330609555

Option 4 ID : 264330609557

Status : Marked For Review

Chosen Option : 4

Q.15 नीचे दिए गए कथनों और निष्कर्षों को ध्यानपूर्वक पढ़िए। आपको मानना है कि दिए गए कथन सत्य हैं चाहे वे समान्यतः ज्ञात तथ्यों से अलग प्रतीत होते हों। आपको निश्चय करना है कि कौन-सा/कौन-से निष्कर्ष तार्किक रूप से दिए गए कथनों के अनुसार है/हैं।

कथन: सभी मिट्टी, धातु है। कुछ धातु, ईंट हैं। सभी ईंट, दवाइयां हैं।

निष्कर्ष I: कुछ मिट्टी, ईंट हैं।

निष्कर्ष II: सभी धातु, दवाइयां हैं।

- Ans**
- 1. दोनों निष्कर्ष (I) और (II) कथनों के अनुसार हैं।
 - 2. न तो निष्कर्ष (I) और न ही (II) कथनों के अनुसार है।
 - 3. केवल निष्कर्ष (I) कथनों के अनुसार है।
 - 4. केवल निष्कर्ष (II) कथनों के अनुसार है।

Question ID : 264330155934

Option 1 ID : 264330611142

Option 2 ID : 264330611141

Option 3 ID : 264330611139

Option 4 ID : 264330611140

Status : Marked For Review

Chosen Option : 3

Q.16 नीचे दिए गए कथन/कथनों और निष्कर्षों को ध्यानपूर्वक पढ़िए। आपको मानना है कि दिए गए कथन सत्य हैं चाहे वे समान्यतः ज्ञात तथ्यों से अलग प्रतीत होते हों। आपको निश्चय करना है कि कौन-सा/कौन-से निष्कर्ष तार्किक रूप से दिए गए कथन/कथनों के अनुसार है/हैं।
कथन: सभी कारे, बिल्लियां हैं। सभी पंखे, बिल्लियां हैं।
निष्कर्ष:
(I) सभी कारे, पंखे हैं।
(II) कुछ पंखे, कारे हैं।

- Ans**
- 1. केवल निष्कर्ष (II) कथनों के अनुसार है।
 - 2. दोनों निष्कर्ष (I) और (II) कथनों के अनुसार हैं।
 - 3. न तो निष्कर्ष (I) और न ही (II) कथनों के अनुसार है।
 - 4. केवल निष्कर्ष (I) कथनों के अनुसार है।

Question ID : 264330154430

Option 1 ID : 264330605184

Option 2 ID : 264330605186

Option 3 ID : 264330605185

Option 4 ID : 264330605183

Status : Marked For Review

Chosen Option : 3

Q.17 अंग्रेजी वर्णमाला क्रम के आधार पर DTGB, FVID से एक निश्चित प्रकार से संबंधित है। उसी प्रकार, VRCK, XTEM से संबंधित है। समान तर्क का अनुसरण करते हुए, JAHM निम्नलिखित में से किससे संबंधित है?

- Ans**
- 1. KBJP
 - 2. MCKP
 - 3. LCJO
 - 4. LDKO

Question ID : 264330151661

Option 1 ID : 264330594273

Option 2 ID : 264330594271

Option 3 ID : 264330594272

Option 4 ID : 264330594274

Status : Marked For Review

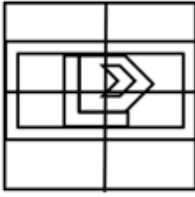
Chosen Option : 3

Q.18 उस विकल्प आकृति को चुनिए जिसमें दी गई आकृति (X) उसके भाग के रूप में निहित है। (पूर्ण की अनुमति नहीं है)



Ans

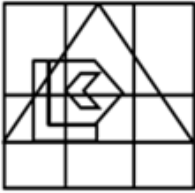
✓ 1.



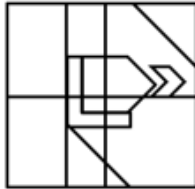
✗ 2.



✗ 3.



✗ 4.



Question ID : 264330151727

Option 1 ID : 264330594537

Option 2 ID : 264330594535

Option 3 ID : 264330594538

Option 4 ID : 264330594536

Status : Marked For Review

Chosen Option : 1

Q.19 अक्षरों के उस संयोजन को चुनिए जिसे दी गई श्रृंखला के रिक्त स्थानों में क्रमिक रूप से रखने पर श्रृंखला पूरी हो जाएगी।

BA _ B _ B _ _ BB _ B

Ans ✓ 1. BABAA

✗ 2. BAABB

✗ 3. ABABB

✗ 4. AABAB

Question ID : 264330151637

Option 1 ID : 264330594178

Option 2 ID : 264330594175

Option 3 ID : 264330594177

Option 4 ID : 264330594176

Status : Marked For Review

Chosen Option : 1

Q.20 अंग्रेजी वर्णमाला क्रम के आधार पर दी गई श्रृंखला में प्रश्न चिह्न (?) के स्थान पर क्या आना चाहिए?

EVO, HSR, KPU, NMX, ?

- Ans
- ✓ 1. QJA
 - ✗ 2. PIB
 - ✗ 3. RIC
 - ✗ 4. PHB

Question ID : 264330155797

Option 1 ID : 264330610594

Option 2 ID : 264330610592

Option 3 ID : 264330610591

Option 4 ID : 264330610593

Status : Marked For Review

Chosen Option : 1

Section : General Awareness

Q.1 छोटी आंत के कम कार्यात्मक होने से कुअवशोषण विकार (malabsorption disorder) हो सकता है जिससे दस्त, कुपोषण, वजन घटना आदि हो सकता है। इस विशेष स्थिति को _____ के नाम से जाना जाता है।

- Ans
- ✗ 1. अल्पग्लूकोज रक्तता (hypoglycaemia)
 - ✗ 2. डाउन सिंड्रोम (Down syndrome)
 - ✗ 3. अतिग्लूकोसरक्तता (hyperglycaemia)
 - ✓ 4. लघु अंत्र संलक्षण (short bowel syndrome)

Question ID : 264330156613

Option 1 ID : 264330613842

Option 2 ID : 264330613840

Option 3 ID : 264330613841

Option 4 ID : 264330613839

Status : Marked For Review

Chosen Option : 4

Q.2 उस्ताद अल्लाह रक्खा (Ustad Allah Rakha) और उस्ताद जाकिर हुसैन (Ustad Zakir Hussain) दोनों भारत के प्रसिद्ध _____ वादक हैं।

- Ans
- ✗ 1. वीणा
 - ✗ 2. सारंगी
 - ✗ 3. बांसुरी
 - ✓ 4. तबला

Question ID : 264330155505

Option 1 ID : 264330609424

Option 2 ID : 264330609426

Option 3 ID : 264330609425

Option 4 ID : 264330609423

Status : Marked For Review

Chosen Option : 4

Q.3 निम्नलिखित में से कौन-सा उपन्यास भारत के विभाजन पर आधारित है और खुशवंत सिंह द्वारा लिखा गया था?

- Ans 1. ट्रेन टू पाकिस्तान
 2. द ग्रेट इंडियन नॉवेल
 3. अनटचेबल
 4. नारकोपोलिस

Question ID : 264330161760
Option 1 ID : 264330634367
Option 2 ID : 264330634369
Option 3 ID : 264330634368
Option 4 ID : 264330634370
Status : Marked For Review
Chosen Option : 1

Q.4 व्यावसायिक बैंकों की आय का मुख्य स्रोत क्या है?

- Ans 1. शेयर बाजार में निवेश से लाभ
 2. सरकारी अनुदान
 3. ऋण और अग्रिम राशि पर अर्जित ब्याज
 4. ग्राहकों से दान

Question ID : 264330157308
Option 1 ID : 264330616598
Option 2 ID : 264330616595
Option 3 ID : 264330616597
Option 4 ID : 264330616596
Status : Marked For Review
Chosen Option : 3

Q.5 लच्छू महाराज एक प्रसिद्ध _____ नर्तक हैं।

- Ans 1. भरतनाट्यम
 2. कथक
 3. ओडिसी
 4. कुचिपुड़ी

Question ID : 264330159067
Option 1 ID : 264330623627
Option 2 ID : 264330623629
Option 3 ID : 264330623630
Option 4 ID : 264330623628
Status : Answered
Chosen Option : 2

Q.6 उस भौगोलिक विशेषता का क्या नाम है जो भारत और श्रीलंका के बीच सीमा का कार्य करती है?

- Ans 1. बोस्पोरस जलडमरूमध्य (Bosporus Strait)
 2. जिब्राल्टर जलडमरूमध्य (Strait of Gibraltar)
 3. डार्डनेल्स जलडमरूमध्य (Dardanelles Strait)
 4. पाक जलडमरूमध्य (Palk Strait)

Question ID : 264330161328
Option 1 ID : 264330632639
Option 2 ID : 264330632641
Option 3 ID : 264330632642
Option 4 ID : 264330632640
Status : Answered
Chosen Option : 4

Q.7 भारतीय संविधान में निदेशक सिद्धांतों की प्रेरणा किस देश के संविधान से ली गई थी?

- Ans
- 1. अमेरिकी संविधान
 - 2. यूनाइटेड किंगडम का संविधान
 - 3. आयरलैंड का संविधान
 - 4. ऑस्ट्रेलिया का संविधान

Question ID : 264330162252
Option 1 ID : 264330636335
Option 2 ID : 264330636336
Option 3 ID : 264330636337
Option 4 ID : 264330636338
Status : Answered
Chosen Option : 3

Q.8 कौन-सी संस्था भारत में सूक्ष्म वित्त संस्थानों को वित्तीय सहयोग और सहायता प्रदान करती है?

- Ans
- 1. भारतीय बैंक संघ (IBA)
 - 2. कारपोरेट कार्य मंत्रालय
 - 3. भारतीय लघु उद्योग विकास बैंक (SIDBI)
 - 4. आर्थिक कार्य विभाग (DEA)

Question ID : 264330157295
Option 1 ID : 264330616544
Option 2 ID : 264330616545
Option 3 ID : 264330616543
Option 4 ID : 264330616546
Status : Answered
Chosen Option : 3

Q.9 37वें राष्ट्रीय खेलों के शुभंकर का नाम क्या है?

- Ans
- 1. ऑली (Oily)
 - 2. जेली (Jelly)
 - 3. पंडी (Pandi)
 - 4. मोगा (Moga)

Question ID : 264330161138
Option 1 ID : 264330631885
Option 2 ID : 264330631884
Option 3 ID : 264330631886
Option 4 ID : 264330631883
Status : Answered
Chosen Option : 1

Q.10 निम्नलिखित में से 'अनटचेबल (अछूत)' उपन्यास के लेखक कौन हैं?

- Ans
- 1. अमिताव घोष
 - 2. मुल्कराज आनंद
 - 3. सलमान रुश्दी
 - 4. विक्रम सेठ

Question ID : 264330155453
Option 1 ID : 264330609216
Option 2 ID : 264330609217
Option 3 ID : 264330609218
Option 4 ID : 264330609215
Status : Answered
Chosen Option : 4

Q.11 जब एक पत्थर ऊपर की ओर फेंका जाता है तो किस प्रकार का ऊर्जा रूपांतरण होगा?

- Ans
- 1. गतिज ऊर्जा यांत्रिक ऊर्जा में बदल जाएगी
 - 2. यांत्रिक ऊर्जा गतिज ऊर्जा में बदल जाएगी
 - 3. गतिज ऊर्जा गुरुत्वीय स्थितिज ऊर्जा में बदल जाएगी
 - 4. स्थितिज ऊर्जा गुरुत्वीय ऊर्जा में बदल जाएगी

Question ID : 264330156581
Option 1 ID : 264330613711
Option 2 ID : 264330613712
Option 3 ID : 264330613714
Option 4 ID : 264330613713
Status : Answered
Chosen Option : 4

Q.12 टाटा आयरन एंड स्टील कंपनी लिमिटेड (TISCO) की शुरुआत वर्ष _____ में झारखंड राज्य के साकची में हुई थी।

- Ans
- 1. 1951
 - 2. 1975
 - 3. 1989
 - 4. 1907

Question ID : 264330161514
Option 1 ID : 264330633384
Option 2 ID : 264330633386
Option 3 ID : 264330633385
Option 4 ID : 264330633383
Status : Answered
Chosen Option : 4

Q.13 राष्ट्रीय सामाजिक सहायता कार्यक्रम (National Social Assistance Programme - NSAP) भारत सरकार के किस मंत्रालय द्वारा संचालित एक कल्याणकारी कार्यक्रम है?

- Ans
- 1. ग्रामीण विकास मंत्रालय
 - 2. जनजातीय कार्य मंत्रालय
 - 3. गृह मंत्रालय
 - 4. कृषि एवं किसान कल्याण मंत्रालय

Question ID : 264330161570
Option 1 ID : 264330633609
Option 2 ID : 264330633610
Option 3 ID : 264330633608
Option 4 ID : 264330633607
Status : Answered
Chosen Option : 1

Q.14 निम्नलिखित में से किसने गणेश चतुर्थी को महाराष्ट्र में सार्वजनिक उत्सव के रूप में लोकप्रिय बनाया?

- Ans
- 1. खुदीराम बोस
 - 2. लोकमान्य बाल गंगाधर तिलक
 - 3. लाला लाजपत राय
 - 4. विनायक दामोदर सावरकर

Question ID : 264330160828
Option 1 ID : 264330630643
Option 2 ID : 264330630644
Option 3 ID : 264330630645
Option 4 ID : 264330630646
Status : Answered
Chosen Option : 2

Q.15 1984 में स्थापित, राष्ट्र-स्तरीय लता मंगेशकर पुरस्कार _____ सरकार के संस्कृति विभाग द्वारा प्रतिवर्ष सुगम संगीत के क्षेत्र में उत्कृष्टता को बढ़ावा देने के लिए दिया जाता है।

- Ans
- 1. मध्यप्रदेश
 - 2. कर्नाटक
 - 3. गोवा
 - 4. राजस्थान

Question ID : 264330155468
Option 1 ID : 264330609277
Option 2 ID : 264330609275
Option 3 ID : 264330609276
Option 4 ID : 264330609278
Status : Answered
Chosen Option : 1

Q.16 सकरात उत्सव (Sakraat festival) _____ में 'बुदिगली (Budigali)' या 'कलासी (Kalasi)' नृत्य के साथ मनाया जाता है, जहां महिलाएं अपने सिर पर सजावटी बर्तन लेकर इस नृत्य में भाग लेती हैं।

- Ans 1. ओडिशा
 2. मणिपुर
 3. मध्यप्रदेश
 4. नगालैंड

Question ID : 264330160801
Option 1 ID : 264330630536
Option 2 ID : 264330630535
Option 3 ID : 264330630537
Option 4 ID : 264330630538
Status : Answered
Chosen Option : 3

Q.17 पद्म श्री पुरस्कार विजेता (2016) गुलाबो सपेरा को _____ नृत्य की रानी के रूप में जाना जाता है।

- Ans 1. कालबेलिया
 2. चरी
 3. भवई
 4. कच्छी घोड़ी

Question ID : 264330155524
Option 1 ID : 264330609499
Option 2 ID : 264330609501
Option 3 ID : 264330609500
Option 4 ID : 264330609502
Status : Answered
Chosen Option : 1

Q.18 मनिंका बत्रा ने एशियन कप टूर्नामेंट (Asian Cup tournament) में कांस्य पदक जीता। वह किस खेल से संबंधित है?

- Ans 1. जूडो
 2. शतरंज
 3. टेबल टेनिस
 4. जिमनास्टिक

Question ID : 264330158371
Option 1 ID : 264330620846
Option 2 ID : 264330620845
Option 3 ID : 264330620843
Option 4 ID : 264330620844
Status : Answered
Chosen Option : 3

Q.19 ताजमहल का निर्माण किसने करवाया था?

- Ans 1. शाहजहां
 2. जहांगीर
 3. हुमायूं
 4. अकबर

Question ID : 264330160768
Option 1 ID : 264330630406
Option 2 ID : 264330630404
Option 3 ID : 264330630403
Option 4 ID : 264330630405
Status : Answered
Chosen Option : 1

Q.20 जून 2023 तक भारतीय संविधान लोकसभा में अधिकतम _____ सदस्यों की अनुमति देता है।

- Ans 1. 543
 2. 546
 3. 550
 4. 545

Question ID : 264330160864
Option 1 ID : 264330630787
Option 2 ID : 264330630789
Option 3 ID : 264330630790
Option 4 ID : 264330630788
Status : Answered
Chosen Option : 3

Q.21 अखिल भारतीय फॉरवर्ड ब्लॉक पार्टी की स्थापना किसने की?

- Ans 1. रासबिहारी बोस
 2. चन्द्रशेखर आजाद
 3. सुभाष चंद्र बोस
 4. भगत सिंह

Question ID : 264330162330
Option 1 ID : 264330636650
Option 2 ID : 264330636648
Option 3 ID : 264330636649
Option 4 ID : 264330636647
Status : Answered
Chosen Option : 3

Q.22 भारतीय उद्योगपतियों ने व्यावसायिक गतिविधियों को प्रतिबंधित करने वाली औपनिवेशिक नीतियों के खिलाफ प्रतिक्रिया व्यक्त की और 1927 में एक संगठन बनाया। इसे क्या कहा गया?

- Ans 1. कॉन्फ़ेडरेशन ऑफ इंडियन इंडस्ट्रीज़ (CII)
 2. इंडियन इंडस्ट्रियल एंड कमर्शियल कॉंग्रेस (IICC)
 3. ऑर्गनाइज़ेशन ऑफ इंडस्ट्रीज़ ऑफ इंडिया (OII)
 4. फ़ेडरेशन ऑफ द इंडियन चैंबर ऑफ कॉमर्स एंड इंडस्ट्रीज़ (FICCI)

Question ID : 264330161742
Option 1 ID : 264330634297
Option 2 ID : 264330634295
Option 3 ID : 264330634296
Option 4 ID : 264330634298
Status : Answered
Chosen Option : 4

Q.23 दिसंबर 2022 में, भारत सरकार ने गृह प्रवेश योजना (Grih Pravesh scheme) की शुरूआत की। इस योजना का लक्ष्य _____ क्षेत्रों के निवासियों को लाभ प्रदान करना था।

- Ans
- 1. केवल आदिवासी
 - 2. ग्रामीण और शहरी दोनों
 - 3. केवल शहरी
 - 4. केवल ग्रामीण

Question ID : 264330158324
Option 1 ID : 264330620657
Option 2 ID : 264330620658
Option 3 ID : 264330620656
Option 4 ID : 264330620655
Status : Answered
Chosen Option : 1

Q.24 आम्र वर्षा (Mango showers) का संबंध किन दो राज्यों से है?

- Ans
- 1. उत्तरप्रदेश और बिहार
 - 2. केरल और कर्नाटक
 - 3. आंध्रप्रदेश और कर्नाटक
 - 4. केरल और आंध्रप्रदेश

Question ID : 264330160146
Option 1 ID : 264330627925
Option 2 ID : 264330627926
Option 3 ID : 264330627924
Option 4 ID : 264330627923
Status : Answered
Chosen Option : 2

Q.25 निम्नलिखित में से किस शहर में FIFA U-17 महिला विश्व कप 2022 का फाइनल आयोजित किया गया था?

- Ans
- 1. मार्गी
 - 2. नवी मुंबई
 - 3. अहमदाबाद
 - 4. भुवनेश्वर

Question ID : 264330158224
Option 1 ID : 264330620257
Option 2 ID : 264330620255
Option 3 ID : 264330620258
Option 4 ID : 264330620256
Status : Marked For Review
Chosen Option : 3

Q.1 The following sentence has been divided into four parts. Identify the part that contains an error.

(A) It is a / (B) state of chaos / (C) since the / (D) chairman resigned.

Ans 1. A

2. B

3. D

4. C

Question ID : 264330152624

Option 1 ID : 264330598102

Option 2 ID : 264330598101

Option 3 ID : 264330598099

Option 4 ID : 264330598100

Status : Marked For Review

Chosen Option : 4

Q.2 There is a spelling error in the given sentence. Select the option that contains the INCORRECTLY spelt word.

He was in despare because of the expiry of his licence.

Ans 1. despare

2. expiry

3. licence

4. because

Question ID : 264330152838

Option 1 ID : 264330598943

Option 2 ID : 264330598945

Option 3 ID : 264330598946

Option 4 ID : 264330598944

Status : Marked For Review

Chosen Option : 3

Q.3 Select the most appropriate meaning of the underlined idiom in the given sentence.

The two neighbours will probably stop fighting when pigs fly.

Ans 1. Something that is impossible

2. When it rains

3. When there is magic

4. When their families meet

Question ID : 264330161581

Option 1 ID : 264330633653

Option 2 ID : 264330633652

Option 3 ID : 264330633651

Option 4 ID : 264330633654

Status : Marked For Review

Chosen Option : 1

Q.4 Select the most appropriate synonym of the given word.
Enchanted

- Ans 1. Repelling
 2. Appealing
 3. Cursed
 4. Disgusted

Question ID : 264330152594
Option 1 ID : 264330597982
Option 2 ID : 264330597981
Option 3 ID : 264330597980
Option 4 ID : 264330597979
Status : Marked For Review
Chosen Option : 2

Q.5 Choose the most appropriate meaning of the underlined idiom in the given sentence.

As soon as Rohan learned that he had topped the examination, he was on cloud nine.

- Ans 1. Very tense
 2. Very confused
 3. Very happy
 4. Very sad

Question ID : 264330153324
Option 1 ID : 264330600852
Option 2 ID : 264330600854
Option 3 ID : 264330600851
Option 4 ID : 264330600853
Status : Marked For Review
Chosen Option : 3

Q.6 The following sentence has been divided into four parts. Identify the part that contains an error.

(A) One of / (B) my brothers write / (C) novels for / (D) leisure.

- Ans 1. D
 2. C
 3. A
 4. B

Question ID : 264330152617
Option 1 ID : 264330598073
Option 2 ID : 264330598072
Option 3 ID : 264330598071
Option 4 ID : 264330598074
Status : Marked For Review
Chosen Option : 4

Q.7 Select the option that rectifies the spelling of the underlined word in the given sentence.

The politician guaranted that he would create jobs if elected.

- Ans
- 1. guarranteed
 - 2. guaranteed
 - 3. gurranted
 - 4. gauaranteed

Question ID : 264330153227
Option 1 ID : 264330600469
Option 2 ID : 264330600467
Option 3 ID : 264330600468
Option 4 ID : 264330600470
Status : Marked For Review
Chosen Option : 2

Q.8 Select the most appropriate meaning of the given idiom.
By the skin of your teeth

- Ans
- 1. To be less affected by criticisms and rebuffs
 - 2. Very protective
 - 3. Saved by others
 - 4. By a very narrow margin

Question ID : 264330155284
Option 1 ID : 264330608579
Option 2 ID : 264330608581
Option 3 ID : 264330608580
Option 4 ID : 264330608582
Status : Marked For Review
Chosen Option : 1

Q.9 Select the INCORRECTLY spelt word.

- Ans
- 1. Conjuror
 - 2. Indispensible
 - 3. Paraphernalia
 - 4. Handkerchiefs

Question ID : 264330152962
Option 1 ID : 264330599423
Option 2 ID : 264330599426
Option 3 ID : 264330599425
Option 4 ID : 264330599424
Status : Marked For Review
Chosen Option : 1

Q.10 Select the most appropriate **ANTONYM** of the given word.
Demolish

- Ans** 1. Criticise
 2. Appreciate
 3. Construct
 4. Invite

Question ID : 264330152742
Option 1 ID : 264330598569
Option 2 ID : 264330598570
Option 3 ID : 264330598567
Option 4 ID : 264330598568
Status : **Marked For Review**
Chosen Option : 3

Q.11 The following sentence has been split into four segments. Identify the segment that contains a grammatical error.
By the time I turn thirty / I would had visited every / continent in the world and have gained / a wealth of knowledge and experience.

- Ans** 1. a wealth of knowledge and experience
 2. By the time I turn thirty
 3. I would had visited every
 4. continent in the world and have gained

Question ID : 264330144177
Option 1 ID : 264330564974
Option 2 ID : 264330564971
Option 3 ID : 264330564972
Option 4 ID : 264330564973
Status : **Marked For Review**
Chosen Option : 2

Q.12 Parts of the following sentence have been given as options. Select the option that contains an error.
Tushar is junior than all his colleagues.

- Ans** 1. his colleagues
 2. Tushar
 3. is
 4. junior than all

Question ID : 264330152800
Option 1 ID : 264330598794
Option 2 ID : 264330598791
Option 3 ID : 264330598792
Option 4 ID : 264330598793
Status : **Marked For Review**
Chosen Option : 4

Q.13 Select the most appropriate option that can substitute the underlined segment in the following sentence.

His research on the migratory patterns of the birds is run-of-the-mill.

- Ans
- 1. trash
 - 2. absurd
 - 3. average
 - 4. one in a million

Question ID : 264330152634
Option 1 ID : 264330598141
Option 2 ID : 264330598142
Option 3 ID : 264330598139
Option 4 ID : 264330598140
Status : Marked For Review
Chosen Option : 3

Q.14 Select the most appropriate option to fill in the blank.

The old man distributed his property _____ his ten grandchildren equally.

- Ans
- 1. between
 - 2. among
 - 3. towards
 - 4. within

Question ID : 264330152731
Option 1 ID : 264330598523
Option 2 ID : 264330598524
Option 3 ID : 264330598526
Option 4 ID : 264330598525
Status : Marked For Review
Chosen Option : 2

Q.15 Select the most appropriate meaning of the given idiom.

The apple of one's eye

- Ans
- 1. Very cheerful
 - 2. Very dear
 - 3. Very pleasing
 - 4. Very nice

Question ID : 264330155393
Option 1 ID : 264330608985
Option 2 ID : 264330608983
Option 3 ID : 264330608986
Option 4 ID : 264330608984
Status : Marked For Review
Chosen Option : 2

Q.16 Select the most appropriate option that can substitute the underlined segment in the given sentence.

Pandemics have often been caused by a disease that spreads by physical touch or contact.

- Ans
- 1. are robust
 - 2. are vigorous
 - 3. are fastidious
 - 4. are contagious

Question ID : 264330153386
Option 1 ID : 264330601088
Option 2 ID : 264330601090
Option 3 ID : 264330601087
Option 4 ID : 264330601089
Status : Marked For Review
Chosen Option : 4

Q.17 Select the option that can be used as a one-word substitute for the given group of words.

The arrangement of events or dates in the order of their occurrence

- Ans
- 1. Entomology
 - 2. Theology
 - 3. Psychology
 - 4. Chronology

Question ID : 264330152773
Option 1 ID : 264330598686
Option 2 ID : 264330598684
Option 3 ID : 264330598683
Option 4 ID : 264330598685
Status : Marked For Review
Chosen Option : 4

Q.18 Select the most appropriate option to fill in the blank.

Her dedication to her work was _____ what anyone had expected.

- Ans
- 1. over
 - 2. beside
 - 3. beyond
 - 4. through

Question ID : 264330151862
Option 1 ID : 264330595069
Option 2 ID : 264330595068
Option 3 ID : 264330595070
Option 4 ID : 264330595067
Status : Marked For Review
Chosen Option : 3

Q.19 The following sentence has been split into four segments. Identify the segment that contains a grammatical error.

Henry is known / as an excellent writer / and good communicator / in English.

- Ans
- 1. Henry is known
 - 2. and good communicator
 - 3. as an excellent writer
 - 4. in English

Question ID : 264330155413
Option 1 ID : 264330609059
Option 2 ID : 264330609061
Option 3 ID : 264330609060
Option 4 ID : 264330609062
Status : **Marked For Review**
Chosen Option : 2

Q.20 Select the most appropriate ANTONYM of the given word.
Harmony

- Ans
- 1. Clarity
 - 2. Unity
 - 3. Conflict
 - 4. Adaptability

Question ID : 264330152743
Option 1 ID : 264330598574
Option 2 ID : 264330598572
Option 3 ID : 264330598573
Option 4 ID : 264330598571
Status : **Marked For Review**
Chosen Option : 3

KD Job Updates

Comprehension:

In the following passage, some words have been deleted. Read the passage carefully and select the most appropriate option to fill in each blank.

Medical hand practices have been an integral part of healthcare for centuries, but with technological advancements, machines are (1)_____ taking over. Robotic surgeries, for instance, have become increasingly popular, allowing surgeons to perform complex (2)_____ with minimal invasive techniques. Machine learning and artificial intelligence have transformed medical diagnosis by analysing large amounts of patient data and providing highly detailed medical images. However, there are still challenges to overcome in the use of these technologies in healthcare. For example, the cost of purchasing and maintaining medical machines can be high, and there are concerns around the ethical use of AI in medicine. Nonetheless, it is clear that medical hand practices are (3)_____ to machines, and these developments have the potential to revolutionise the healthcare industry. Additionally, the use of telemedicine and remote monitoring devices allows patients to receive medical care from the (4)_____ of their homes, particularly beneficial for those in rural or remote areas. Furthermore, medical machines provide healthcare professionals with real-time information, (5)_____ them to make informed decisions and adjust treatment plans accordingly.

SubQuestion No : 21

Q.21 Select the most appropriate option to fill in blank no. 1.

- Ans 1. gradually
 2. sincerely
 3. deliberately
 4. partially

Question ID : 264330153645

Option 1 ID : 264330602048

Option 2 ID : 264330602050

Option 3 ID : 264330602049

Option 4 ID : 264330602047

Status : Answered

Chosen Option : 1

Comprehension:

In the following passage, some words have been deleted. Read the passage carefully and select the most appropriate option to fill in each blank.

Medical hand practices have been an integral part of healthcare for centuries, but with technological advancements, machines are (1)_____ taking over. Robotic surgeries, for instance, have become increasingly popular, allowing surgeons to perform complex (2)_____ with minimal invasive techniques. Machine learning and artificial intelligence have transformed medical diagnosis by analysing large amounts of patient data and providing highly detailed medical images. However, there are still challenges to overcome in the use of these technologies in healthcare. For example, the cost of purchasing and maintaining medical machines can be high, and there are concerns around the ethical use of AI in medicine. Nonetheless, it is clear that medical hand practices are (3)_____ to machines, and these developments have the potential to revolutionise the healthcare industry. Additionally, the use of telemedicine and remote monitoring devices allows patients to receive medical care from the (4)_____ of their homes, particularly beneficial for those in rural or remote areas. Furthermore, medical machines provide healthcare professionals with real-time information, (5)_____ them to make informed decisions and adjust treatment plans accordingly.

SubQuestion No : 22

Q.22 Select the most appropriate option to fill in blank no. 2.

- Ans 1. diagnosis
 2. procedures
 3. analysis
 4. therapies

Question ID : 264330153646

Option 1 ID : 264330602051

Option 2 ID : 264330602054

Option 3 ID : 264330602052

Option 4 ID : 264330602053

Status : Answered

Chosen Option : 3

Comprehension:

In the following passage, some words have been deleted. Read the passage carefully and select the most appropriate option to fill in each blank.

Medical hand practices have been an integral part of healthcare for centuries, but with technological advancements, machines are (1)_____ taking over. Robotic surgeries, for instance, have become increasingly popular, allowing surgeons to perform complex (2)_____ with minimal invasive techniques. Machine learning and artificial intelligence have transformed medical diagnosis by analysing large amounts of patient data and providing highly detailed medical images. However, there are still challenges to overcome in the use of these technologies in healthcare. For example, the cost of purchasing and maintaining medical machines can be high, and there are concerns around the ethical use of AI in medicine. Nonetheless, it is clear that medical hand practices are (3)_____ to machines, and these developments have the potential to revolutionise the healthcare industry. Additionally, the use of telemedicine and remote monitoring devices allows patients to receive medical care from the (4)_____ of their homes, particularly beneficial for those in rural or remote areas. Furthermore, medical machines provide healthcare professionals with real-time information, (5)_____ them to make informed decisions and adjust treatment plans accordingly.

SubQuestion No : 23

Q.23 Select the most appropriate option to fill in blank no. 3.

- Ans 1. depleting
 2. evolving
 3. stagnating
 4. diminishing

Question ID : 264330153647

Option 1 ID : 264330602055

Option 2 ID : 264330602057

Option 3 ID : 264330602058

Option 4 ID : 264330602056

Status : Answered

Chosen Option : 2

Comprehension:

In the following passage, some words have been deleted. Read the passage carefully and select the most appropriate option to fill in each blank.

Medical hand practices have been an integral part of healthcare for centuries, but with technological advancements, machines are (1)_____ taking over. Robotic surgeries, for instance, have become increasingly popular, allowing surgeons to perform complex (2)_____ with minimal invasive techniques. Machine learning and artificial intelligence have transformed medical diagnosis by analysing large amounts of patient data and providing highly detailed medical images. However, there are still challenges to overcome in the use of these technologies in healthcare. For example, the cost of purchasing and maintaining medical machines can be high, and there are concerns around the ethical use of AI in medicine. Nonetheless, it is clear that medical hand practices are (3)_____ to machines, and these developments have the potential to revolutionise the healthcare industry. Additionally, the use of telemedicine and remote monitoring devices allows patients to receive medical care from the (4)_____ of their homes, particularly beneficial for those in rural or remote areas. Furthermore, medical machines provide healthcare professionals with real-time information, (5)_____ them to make informed decisions and adjust treatment plans accordingly.

SubQuestion No : 24

Q.24 Select the most appropriate option to fill in blank no. 4.

- Ans 1. inconvenience
 2. locality
 3. range
 4. comfort

Question ID : 264330153648

Option 1 ID : 264330602060

Option 2 ID : 264330602061

Option 3 ID : 264330602062

Option 4 ID : 264330602059

Status : Answered

Chosen Option : 4

Comprehension:

In the following passage, some words have been deleted. Read the passage carefully and select the most appropriate option to fill in each blank.

Medical hand practices have been an integral part of healthcare for centuries, but with technological advancements, machines are (1)_____ taking over. Robotic surgeries, for instance, have become increasingly popular, allowing surgeons to perform complex (2)_____ with minimal invasive techniques. Machine learning and artificial intelligence have transformed medical diagnosis by analysing large amounts of patient data and providing highly detailed medical images. However, there are still challenges to overcome in the use of these technologies in healthcare. For example, the cost of purchasing and maintaining medical machines can be high, and there are concerns around the ethical use of AI in medicine. Nonetheless, it is clear that medical hand practices are (3)_____ to machines, and these developments have the potential to revolutionise the healthcare industry. Additionally, the use of telemedicine and remote monitoring devices allows patients to receive medical care from the (4)_____ of their homes, particularly beneficial for those in rural or remote areas. Furthermore, medical machines provide healthcare professionals with real-time information, (5)_____ them to make informed decisions and adjust treatment plans accordingly.

SubQuestion No : 25

Q.25 Select the most appropriate option to fill in blank no. 5.

- Ans
- 1. neglecting
 - 2. adapting
 - 3. enabling
 - 4. reimagining

Question ID : **264330153649**

Option 1 ID : **264330602065**

Option 2 ID : **264330602063**

Option 3 ID : **264330602066**

Option 4 ID : **264330602064**

Status : **Marked For Review**

Chosen Option : **3**

KD Job Updates

Multi Tasking Non Technical Staff and Havaladar CBIC and CBN Examination 2023

Roll Number	KD Job Updates
Candidate Name	KD Job Updates
Venue Name	iON Dizital Zone Faridabad
Exam Date	13/09/2023
Exam Time	9:00 AM - 11:00 AM
Subject	MTS Non Tech Havaladar CBIC and CBN Examination 2023

Section : Numerical and Mathematical Ability

Q.1 यदि $6\frac{1}{2} \times 2\frac{4}{5} \div x = \frac{7}{10}$, तो x का मान ज्ञात कीजिए।

- Ans
- 1. 32
 - 2. 26
 - 3. 6
 - 4. 12

Question ID : 264330153867
Option 1 ID : 264330602934
Option 2 ID : 264330602932
Option 3 ID : 264330602931
Option 4 ID : 264330602933
Status : Answered
Chosen Option : 2

Q.2 एक कैलकुलेटर को ₹1,080 में बेचने पर 10% की हानि होती है, यदि कैलकुलेटर को ₹1,350 में बेचा जाता है, तो लेनदेन का निवल परिणाम क्या है?

- Ans
- 1. 12% लाभ
 - 2. $12\frac{1}{2}$ % हानि
 - 3. $12\frac{1}{2}$ % लाभ
 - 4. 12% हानि

Question ID : 264330159027
Option 1 ID : 264330623469
Option 2 ID : 264330623468
Option 3 ID : 264330623467
Option 4 ID : 264330623470
Status : Answered
Chosen Option : 3

Q.3 दिए गए दंड-आलेख का अध्ययन कीजिए और दिए गए प्रश्न का उत्तर दीजिए।

दंड-आलेख में एक विशेष वर्ष के अलग-अलग माह के दौरान एक पुस्तक विक्रेता द्वारा बेची गई पुस्तकों की संख्या को दर्शाया गया है।



संदर्भ:- Number of books sold (in thousands) -बेची गई पुस्तकों की संख्या (हजारों में), JAN- जनवरी, FEB – फरवरी, MARCH – मार्च, APRIL – अप्रैल, MAY – मई, JUNE – जून, JULY – जुलाई, AUG – अगस्त, SEPT – सितम्बर, OCT – अक्टूबर, NOV – नवम्बर, DEC - दिसम्बर

दिसंबर के माह में बेची गई पुस्तकों की संख्या प्रति माह बेची गई पुस्तकों की औसत संख्या से कितनी कम है?

- Ans
- 1. 39
 - 2. 93
 - 3. 120
 - 4. 95

Question ID : 264330153819

Option 1 ID : 264330602741

Option 2 ID : 264330602739

Option 3 ID : 264330602742

Option 4 ID : 264330602740

Status : Answered

Chosen Option : 3

Q.4 एक दूधवाले के पास दूध और पानी के मिश्रण के 2 बर्तन हैं। पहले में 80% दूध और बाकी पानी है। दूसरे में 50% दूध है। उसे प्रत्येक बर्तन में से कितना मिश्रण (लीटर में) मिलाना चाहिए ताकि 9 लीटर मिश्रण इस प्रकार प्राप्त हो जिसमें पानी और दूध का अनुपात 1 : 2 हो? (अपना उत्तर बर्तन 1 और बर्तन 2 के क्रम में लिखें)

- Ans
- 1. 5, 4
 - 2. 6, 3
 - 3. 4, 5
 - 4. 3, 6

Question ID : 264330153760

Option 1 ID : 264330602506

Option 2 ID : 264330602503

Option 3 ID : 264330602505

Option 4 ID : 264330602504

Status : Answered

Chosen Option : 4

Q.5 समानांतर पटरियों पर दो रेलगाड़ियां एक ही दिशा में चल रही हैं। रेलगाड़ी A, 30 km/h की चाल से यात्रा कर रही है और रेलगाड़ी B, 60 km/h की चाल से यात्रा कर रही है। यदि रेलगाड़ी A की लंबाई 400 m है और रेलगाड़ी B को रेलगाड़ी A को पार करने में 2 मिनट का समय लगता है, तो रेलगाड़ी B की लंबाई कितनी है?

- Ans**
- 1. 500 m
 - 2. 600 m
 - 3. 400 m
 - 4. 700 m

Question ID : 264330156275
Option 1 ID : 264330612500
Option 2 ID : 264330612501
Option 3 ID : 264330612499
Option 4 ID : 264330612502
Status : Answered
Chosen Option : 2

Q.6 एक नाव B से A तक धारा के प्रतिकूल और A से B तक धारा के अनुकूल जाने में 3 घंटे का समय लेती है। यदि स्थिर जल में नाव की चाल 9 km/h है और धारा की चाल 3.5 km/h है, तो A और B के बीच की दूरी कितनी है? (दशमलव के दो स्थानों तक सही)

- Ans**
- 1. 13.46 km
 - 2. 12.46 km
 - 3. 11.46 km
 - 4. 14.46 km

Question ID : 264330156348
Option 1 ID : 264330612792
Option 2 ID : 264330612791
Option 3 ID : 264330612793
Option 4 ID : 264330612794
Status : Answered
Chosen Option : 3

Q.7 11% वार्षिक साधारण ब्याज की दर पर निवेश की गई ₹2,000 की धनराशि कितने वर्षों में ₹3,100 हो जाएगी?

- Ans**
- 1. 4
 - 2. 3
 - 3. 5
 - 4. 2

Question ID : 264330156226
Option 1 ID : 264330612305
Option 2 ID : 264330612304
Option 3 ID : 264330612306
Option 4 ID : 264330612303
Status : Answered
Chosen Option : 3

Q.8 ₹25 प्रति किलोग्राम मूल्य वाले 15 kg गेहूँ को एक अन्य प्रकार के 10 kg गेहूँ के साथ मिलाकर ₹30 प्रति किलोग्राम मूल्य वाला मिश्रण प्राप्त किया जाता है। महंगे गेहूँ का (प्रति किलोग्राम) मूल्य ज्ञात कीजिए।

- Ans** ✓ 1. ₹37.5
✗ 2. ₹35.5
✗ 3. ₹30.5
✗ 4. ₹32.5

Question ID : 264330156213
Option 1 ID : 264330612254
Option 2 ID : 264330612253
Option 3 ID : 264330612251
Option 4 ID : 264330612252
Status : Answered
Chosen Option : 1

Q.9 एक परिवार अपनी मासिक आय का 20% घर के किराए पर खर्च करता है। शेष राशि में से परिवार 50% घरेलू खर्च और 20% बच्चों की शिक्षा पर खर्च करता है। यदि ऐसा करने के बाद परिवार की मासिक बचत ₹6,600 है, तो परिवार की कुल मासिक आय कितनी है?

- Ans** ✓ 1. ₹27,500
✗ 2. ₹30,000
✗ 3. ₹28,000
✗ 4. ₹25,000

Question ID : 264330154121
Option 1 ID : 264330603949
Option 2 ID : 264330603950
Option 3 ID : 264330603948
Option 4 ID : 264330603947
Status : Answered
Chosen Option : 1

Q.10 दो संख्याओं का अनुपात 13 : 15 हैं। यदि उनका महत्तम समापवर्तक 3 है, तो इन दोनों संख्याओं के बीच का अंतर कितना है?

- Ans** ✗ 1. 2
✗ 2. 8
✓ 3. 6
✗ 4. 4

Question ID : 264330155681
Option 1 ID : 264330610127
Option 2 ID : 264330610130
Option 3 ID : 264330610129
Option 4 ID : 264330610128
Status : Answered
Chosen Option : 3

Q.11 यदि किसी संख्या का $\frac{5}{6}$ उसी संख्या से 10 कम है, तो संख्या का $\frac{7}{5}$ _____ है।

- Ans
- 1. 60
 - 2. 96
 - 3. 72
 - 4. 84

Question ID : 264330153806
Option 1 ID : 264330602688
Option 2 ID : 264330602690
Option 3 ID : 264330602687
Option 4 ID : 264330602689
Status : Answered
Chosen Option : 4

Q.12 दी गई तालिका का अध्ययन कीजिए और नीचे दिए गए प्रश्न का उत्तर दीजिए।

तालिका में 2011 से 2015 तक भारत से निर्यात किए गए दूध को दर्शाया गया है।

वर्ष	मात्रा (लाख लीटर में)	मूल्य (₹ करोड़ में)
2011	130	240
2012	115	220
2013	142	420
2014	165	550
2015	195	610

किस वर्ष में प्रति लीटर मूल्य अधिकतम है?

- Ans
- 1. 2015
 - 2. 2013
 - 3. 2014
 - 4. 2012

Question ID : 264330157334
Option 1 ID : 264330616702
Option 2 ID : 264330616700
Option 3 ID : 264330616701
Option 4 ID : 264330616699
Status : Answered
Chosen Option : 2

Q.13 A और B एक काम को क्रमशः 6 और 8 दिनों में पूरा कर सकते हैं। वे बारी-बारी से एक दिन छोड़कर काम करते हैं और A पहले दिन काम शुरू करता है। काम को पूरा करने में उन्हें कितने दिन लगेंगे?

Ans

✓ 1. $6\frac{3}{4}$

✗ 2. $6\frac{1}{4}$

✗ 3. 6

✗ 4. $6\frac{1}{2}$

Question ID : 264330156280

Option 1 ID : 264330612522

Option 2 ID : 264330612520

Option 3 ID : 264330612519

Option 4 ID : 264330612521

Status : Answered

Chosen Option : 1

Q.14 A और B एक काम को 5 दिनों में कर सकते हैं, जबकि C और D उसी काम को 20 दिनों में कर सकते हैं। A, B, C और D साथ मिलकर इसे कितने दिनों में पूरा करेंगे?

Ans

✗ 1. 3

✗ 2. 6

✗ 3. 5

✓ 4. 4

Question ID : 264330156116

Option 1 ID : 264330611863

Option 2 ID : 264330611866

Option 3 ID : 264330611864

Option 4 ID : 264330611865

Status : Answered

Chosen Option : 4

Q.15 एक कक्षा में 20 विद्यार्थियों का औसत भार 55 kg है। यदि इसमें कक्षा शिक्षक का भार शामिल कर लिया जाए तो औसत में 0.5 kg की वृद्धि हो जाती है। कक्षा शिक्षक का भार क्या है?

Ans

✗ 1. 67.2 kg

✗ 2. 63.5 kg

✗ 3. 68.4 kg

✓ 4. 65.5 kg

Question ID : 264330155954

Option 1 ID : 264330611216

Option 2 ID : 264330611217

Option 3 ID : 264330611215

Option 4 ID : 264330611218

Status : Answered

Chosen Option : 4

Q.16 If the diameter of the base of a cone is 70 cm and its curved surface area is 4070 cm^2 , then what will be its volume (in cm^3)? (use $\pi = \frac{22}{7}$)

- Ans** 1. 15,400
 2. 1180
 3. 17,600
 4. 16,300

Question ID : 264330156539
Option 1 ID : 264330613546
Option 2 ID : 264330613543
Option 3 ID : 264330613545
Option 4 ID : 264330613544
Status : Answered
Chosen Option : 3

Q.17 Some oranges were purchased at ₹150 per hundred and sold at ₹24 per dozen. It gave a gain of ₹1,000. How many oranges were purchased?

- Ans** 1. 2500
 2. 2000
 3. 1500
 4. 3000

Question ID : 264330156074
Option 1 ID : 264330611698
Option 2 ID : 264330611695
Option 3 ID : 264330611697
Option 4 ID : 264330611696
Status : Answered
Chosen Option : 2

Q.18 किस धनराशि पर 5% वार्षिक की दर से 3 वर्ष के साधारण ब्याज और चक्रवृद्धि ब्याज (वार्षिक रूप से संयोजित) के बीच का अंतर ₹15.25 होगा?

- Ans** 1. ₹ 4,000
 2. ₹2,500
 3. ₹1,000
 4. ₹2,000

Question ID : 264330156345
Option 1 ID : 264330612779
Option 2 ID : 264330612782
Option 3 ID : 264330612781
Option 4 ID : 264330612780
Status : Not Answered
Chosen Option : --

Q.19 1650 विद्यार्थियों वाले एक स्कूल में लड़कों की संख्या और लड़कियों की संख्या का अनुपात 6 : 5 है। यदि 124 नए लड़कों और कुछ नई लड़कियों को प्रवेश दिया जाता है, तो अनुपात 4 : 3 हो जाता है। प्रवेश लेने वाली नई लड़कियों और नए लड़कों का अनुपात क्या है?

- Ans**
- 1. 3 : 4
 - 2. 9 : 62
 - 3. 62 : 9
 - 4. 4 : 3

Question ID : 264330156307
Option 1 ID : 264330612628
Option 2 ID : 264330612630
Option 3 ID : 264330612629
Option 4 ID : 264330612627
Status : Not Answered
Chosen Option : --

Q.20 The length of an edge of a cube is 3.5 cm. Find its total surface area.

- Ans**
- 1. 36 cm²
 - 2. 73.5 cm²
 - 3. 27 cm²
 - 4. 154 cm²

Question ID : 264330156086
Option 1 ID : 264330611745
Option 2 ID : 264330611743
Option 3 ID : 264330611744
Option 4 ID : 264330611746
Status : Answered
Chosen Option : 2

Section : Reasoning Ability and Problem Solving

Q.1 दी गई श्रृंखला में प्रश्न चिह्न '?' के स्थान पर क्या आना चाहिए?

710 720 730 740 750 ?

- Ans**
- 1. 770
 - 2. 780
 - 3. 760
 - 4. 790

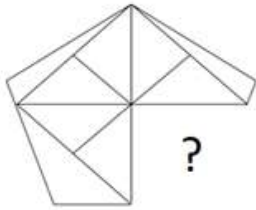
Question ID : 264330151548
Option 1 ID : 264330593821
Option 2 ID : 264330593822
Option 3 ID : 264330593820
Option 4 ID : 264330593819
Status : Answered
Chosen Option : 3

Q.2 एक निश्चित कूट भाषा में, 'ENTRUST' को 'FOURVTU' लिखा जाता है और 'CUSHION' को 'DVTHJPO' लिखा जाता है। उस कूट भाषा में 'CLEAVER' को कैसे लिखा जाएगा?

- Ans
- 1. ENGBWT
 - 2. EMFBWGT
 - 3. DMFAWFS
 - 4. DNGBWGT

Question ID : 264330155826
Option 1 ID : 264330610708
Option 2 ID : 264330610707
Option 3 ID : 264330610709
Option 4 ID : 264330610710
Status : Answered
Chosen Option : 3

Q.3 पैटर्न को पूरा करने वाली आकृति को पहचानिए (घूर्णन की अनुमति नहीं है)।



Ans

- 1.
- 2.
- 3.
- 4.

Question ID : 264330154516
Option 1 ID : 264330605529
Option 2 ID : 264330605528
Option 3 ID : 264330605530
Option 4 ID : 264330605527
Status : Answered
Chosen Option : 4

Q.4 दी गई श्रृंखला में प्रश्न चिन्ह '?' के स्थान पर क्या आना चाहिए?

18 32 60 116 228 ?

- Ans
- 1. 480
 - 2. 468
 - 3. 474
 - 4. 452

Question ID : 264330151496

Option 1 ID : 264330593614

Option 2 ID : 264330593612

Option 3 ID : 264330593613

Option 4 ID : 264330593611

Status : Answered

Chosen Option : 4

Q.5 नीचे दिए गए कथनों और निष्कर्षों को ध्यानपूर्वक पढ़िए। आपको मानना है कि दिए गए कथन सत्य हैं चाहे वे समान्यतः ज्ञात तथ्यों से अलग प्रतीत होते हों। आपको निश्चय करना है कि कौन-सा/कौन-से निष्कर्ष तार्किक रूप से दिए गए कथनों के अनुसार है/हैं।

कथन: कुछ पत्तियां, पुरानी हैं। सभी पुरानी, कपड़े हैं। कुछ कपड़े, कागज हैं।

निष्कर्ष I: सभी पत्तियां, पुरानी हैं।

निष्कर्ष II: कुछ पुरानी, कपड़े हैं।

- Ans
- 1. केवल निष्कर्ष (I) कथनों के अनुसार है।
 - 2. दोनों निष्कर्ष (I) और (II) कथनों के अनुसार हैं।
 - 3. न तो निष्कर्ष (I) और न ही (II) कथनों के अनुसार है।
 - 4. केवल निष्कर्ष (II) कथनों के अनुसार है।

Question ID : 264330155906

Option 1 ID : 264330611027

Option 2 ID : 264330611030

Option 3 ID : 264330611029

Option 4 ID : 264330611028

Status : Answered

Chosen Option : 4

Q.6 अंग्रेजी वर्णमाला क्रम के आधार पर TDWP, RBUN से एक निश्चित प्रकार से संबंधित है। उसी प्रकार, FJMH, DHKF से संबंधित है। समान तर्क का अनुसरण करते हुए, SENP निम्नलिखित में से किससे संबंधित है?

- Ans
- 1. QCLN
 - 2. QDKO
 - 3. PDKN
 - 4. RCMN

Question ID : 264330151662

Option 1 ID : 264330594278

Option 2 ID : 264330594275

Option 3 ID : 264330594276

Option 4 ID : 264330594277

Status : Answered

Chosen Option : 1

Q.7 एक निश्चित तर्क के अनुसार 8, 88 से संबंधित है। समान तर्क के अनुसार, 11, 121 से संबंधित है। समान तर्क का अनुसरण करते हुए 15 निम्नलिखित में से किससे संबंधित है?

- Ans**
- 1. 162
 - 2. 164
 - 3. 163
 - 4. 165

Question ID : 264330151589
Option 1 ID : 264330593983
Option 2 ID : 264330593985
Option 3 ID : 264330593984
Option 4 ID : 264330593986
Status : Answered
Chosen Option : 4

Q.8 अंग्रेजी वर्णमाला क्रम के आधार पर दी गई श्रृंखला में प्रश्न चिह्न '?' के स्थान पर कौन-सा अक्षर-समूह आना चाहिए?

AOS, DMV, GKY, JIB, ?

- Ans**
- 1. OHE
 - 2. MGE
 - 3. NHF
 - 4. NGF

Question ID : 264330156299
Option 1 ID : 264330612598
Option 2 ID : 264330612596
Option 3 ID : 264330612597
Option 4 ID : 264330612595
Status : Answered
Chosen Option : 2

Q.9 यदि T का अर्थ '+', J का अर्थ 'x', K का अर्थ '-' और L का अर्थ '=' है, तो निम्नलिखित समीकरण में प्रश्न चिह्न (?) के स्थान पर क्या आएगा?
(48 K 8) J 4 L 15 I (12 J 3) I 20 = ?

- Ans**
- 1. 70
 - 2. 60
 - 3. 55
 - 4. 65

Question ID : 264330151789
Option 1 ID : 264330594786
Option 2 ID : 264330594784
Option 3 ID : 264330594783
Option 4 ID : 264330594785
Status : Answered
Chosen Option : 4

Q.10 दी गई श्रृंखला में प्रश्न चिन्ह '?' के स्थान पर क्या आना चाहिए?

2 21 97 401 1617 ?

- Ans
- ✓ 1. 6481
 - ✗ 2. 6493
 - ✗ 3. 6235
 - ✗ 4. 6507

Question ID : 264330151470
Option 1 ID : 264330593508
Option 2 ID : 264330593509
Option 3 ID : 264330593507
Option 4 ID : 264330593510
Status : Answered
Chosen Option : 1

Q.11 एक निश्चित तर्क के अनुसार 8, 59 से संबंधित है। समान तर्क के अनुसार, 9, 76 से संबंधित है। समान तर्क का अनुसरण करते हुए 25 निम्नलिखित में से किससे संबंधित है?

- Ans
- ✗ 1. 635
 - ✓ 2. 620
 - ✗ 3. 630
 - ✗ 4. 625

Question ID : 264330151599
Option 1 ID : 264330594026
Option 2 ID : 264330594023
Option 3 ID : 264330594025
Option 4 ID : 264330594024
Status : Answered
Chosen Option : 2

Q.12 दी गई आकृति के उस सही दर्पण प्रतिबिंब को चुनिए, जो नीचे दर्शाए गए अनुसार दर्पण को MN पर रखने पर बनेगा।

K t P 4 7 F

M

N

- Ans
- ✗ 1. J L P 9 J K
 - ✗ 2. F 7 P 9 J K
 - ✗ 3. F 7 P t P K
 - ✓ 4. F 7 P 9 J K

Question ID : 264330151526
Option 1 ID : 264330593731
Option 2 ID : 264330593733
Option 3 ID : 264330593734
Option 4 ID : 264330593732
Status : Answered
Chosen Option : 4

Q.13 D, E, F, G, H, I, J और K एक वर्गाकार मेज के चारों ओर केंद्र की ओर मुख करके बैठे हैं। उनमें से कुछ मेज के कोनों पर बैठे हैं जबकि कुछ भुजाओं के ठीक मध्य में बैठे हैं। K, I के दाईं ओर से तीसरे स्थान पर बैठा है। K किसी एक कोने पर बैठा है। E, G के बाईं ओर से दूसरे स्थान पर बैठा है। G किसी भी एक कोने पर बैठा है। I और D का निकटतम पड़ोसी E है। F, J के दाईं ओर से तीसरे स्थान पर बैठा है। F और K का निकटतम पड़ोसी H है। I के बाईं ओर से गिनने पर I और F के बीच में कितने व्यक्ति बैठे हैं?

- Ans**
- 1. तीन
 - 2. एक
 - 3. दो
 - 4. चार

Question ID : **264330155533**
Option 1 ID : **264330609537**
Option 2 ID : **264330609535**
Option 3 ID : **264330609536**
Option 4 ID : **264330609538**
Status : **Answered**
Chosen Option : **3**

Q.14 एक निश्चित कूट भाषा में, 'let it be' को 'sd am ht' लिखा जाता है और 'be the change' को 'vn sd ek' लिखा जाता है। उसी कूट भाषा में 'be' को कैसे लिखा जाएगा?

- Ans**
- 1. ek
 - 2. ht
 - 3. vn
 - 4. sd

Question ID : **264330151709**
Option 1 ID : **264330594465**
Option 2 ID : **264330594463**
Option 3 ID : **264330594466**
Option 4 ID : **264330594464**
Status : **Answered**
Chosen Option : **4**

Q.15 यदि निम्नलिखित आकृति श्रृंखला को जारी रखना हो तो कौन-सी आकृति प्रश्न चिन्ह (?) के स्थान पर आनी चाहिए?

□	6	A	T	
A P T □ 3 P L □ 3 A 6 □	?			
6 3 A T T 6 L 3				

Ans

✗ 1.

	3	
6	□	A
T		L

✓ 2.

	L	
S	A	6
3		T

✗ 3.

	3	
6	□	S
T		L

✗ 4.

	L	
□	A	6
3		T

Question ID : 264330154742

Option 1 ID : 264330606433

Option 2 ID : 264330606434

Option 3 ID : 264330606432

Option 4 ID : 264330606431

Status : Answered

Chosen Option : 2

Q.16 यदि '+' और '-' को आपस में बदल दिया जाए तथा 'x' और '÷' को आपस में बदल दिया जाए तो निम्नलिखित समीकरण में (?) के स्थान पर क्या आएगा?

$$108 \times 9 + 15 - 17 \div 2 = ?$$

Ans ✗ 1. 21

✗ 2. 41

✗ 3. 51

✓ 4. 31

Question ID : 264330155665

Option 1 ID : 264330610065

Option 2 ID : 264330610063

Option 3 ID : 264330610066

Option 4 ID : 264330610064

Status : Answered

Chosen Option : 4

Q.17 यदि 11 दिसंबर 2009 को शुक्रवार है, तो 18 दिसंबर 2014 को सप्ताह का कौन-सा दिन होगा?

- Ans 1. गुरुवार
 2. सोमवार
 3. बुधवार
 4. मंगलवार

Question ID : 264330154351
Option 1 ID : 264330604869
Option 2 ID : 264330604867
Option 3 ID : 264330604870
Option 4 ID : 264330604868
Status : Answered
Chosen Option : 3

Q.18 अंग्रेजी वर्णमाला क्रम के आधार पर दी गई श्रृंखला में प्रश्न चिह्न (?) के स्थान पर क्या आना चाहिए?

GAR, KEV, OIZ, SMD, ?

- Ans 1. WPH
 2. VPG
 3. VRF
 4. WQH

Question ID : 264330155766
Option 1 ID : 264330610467
Option 2 ID : 264330610469
Option 3 ID : 264330610468
Option 4 ID : 264330610470
Status : Answered
Chosen Option : 4

Q.19 अक्षरों के उस संयोजन को चुनिए जिसे दी गई श्रृंखला के रिक्त स्थानों में क्रमिक रूप से रखने पर श्रृंखला तार्किक रूप से पूरी हो जाएगी।

DZL_G_JD_ZHDM_FDPZ_D

- Ans 1. DZJZD
 2. NVKDM
 3. KJBVD
 4. DNMVH

Question ID : 264330156318
Option 1 ID : 264330612673
Option 2 ID : 264330612671
Option 3 ID : 264330612674
Option 4 ID : 264330612672
Status : Answered
Chosen Option : 1

Q.20 नीचे दिए गए कथनों और निष्कर्षों को ध्यानपूर्वक पढ़िए। आपको मानना है कि दिए गए कथन सत्य हैं चाहे वे समान्यतः ज्ञात तथ्यों से अलग प्रतीत होते हों। आपको निश्चय करना है कि कौन-सा/कौन-से निष्कर्ष तार्किक रूप से दिए गए कथनों के अनुसार है/हैं।

कथन: सभी जूते, लेदर हैं। कुछ लेदर, बेल्ट हैं। कुछ बेल्ट, सोना हैं।

निष्कर्ष I: कुछ जूते, बेल्ट हैं।
निष्कर्ष II: सभी बेल्ट, सोना हैं।

- Ans**
- ✓ 1. न तो निष्कर्ष (I) और न ही (II) कथनों के अनुसार है।
 - ✗ 2. दोनों निष्कर्ष (I) और (II) कथनों के अनुसार हैं।
 - ✗ 3. केवल निष्कर्ष (I) कथनों के अनुसार है।
 - ✗ 4. केवल निष्कर्ष (II) कथनों के अनुसार है।

Question ID : 264330155935

Option 1 ID : 264330611145

Option 2 ID : 264330611146

Option 3 ID : 264330611143

Option 4 ID : 264330611144

Status : Answered

Chosen Option : 1

Section : General Awareness

Q.1 भारत ने फाइनल में निम्नलिखित में से किस देश को हराकर 2021 SAFF चैंपियनशिप जीती?

- Ans**
- ✗ 1. लेबनान
 - ✗ 2. मालदीव
 - ✓ 3. नेपाल
 - ✗ 4. कुवैत

Question ID : 264330161137

Option 1 ID : 264330631881

Option 2 ID : 264330631880

Option 3 ID : 264330631882

Option 4 ID : 264330631879

Status : Answered

Chosen Option : 4

Q.2 1857 के विद्रोह के संदर्भ में, मंगल पांडे किस बंगाल नेटिव इन्फैंट्री (Bengal native Infantry) से संबंधित थे?

- Ans**
- ✓ 1. 34
 - ✗ 2. 64
 - ✗ 3. 52
 - ✗ 4. 70

Question ID : 264330162328

Option 1 ID : 264330636639

Option 2 ID : 264330636641

Option 3 ID : 264330636640

Option 4 ID : 264330636642

Status : Not Answered

Chosen Option : --

Q.3 छउ भारत की एक प्रमुख नृत्य परंपरा है। निम्नलिखित में से किस भारतीय राज्य में यह नृत्य शैली प्रचलित नहीं है?

- Ans
- 1. झारखंड
 - 2. पश्चिम बंगाल
 - 3. मध्यप्रदेश
 - 4. ओडिशा

Question ID : 264330161343
Option 1 ID : 264330632700
Option 2 ID : 264330632702
Option 3 ID : 264330632701
Option 4 ID : 264330632699
Status : Answered
Chosen Option : 3

Q.4 निम्नलिखित में से किस भारतीय शास्त्रीय नर्तक/नर्तकी को भरतनाट्यम और ओडिसी दोनों नृत्य शैली में निपुणता हासिल है?

- Ans
- 1. पद्मा सुब्रह्मण्यम
 - 2. शोवना नारायण
 - 3. सोनल मानसिंह
 - 4. गुरु बिपिन सिंह

Question ID : 264330159064
Option 1 ID : 264330623618
Option 2 ID : 264330623616
Option 3 ID : 264330623617
Option 4 ID : 264330623615
Status : Answered
Chosen Option : 3

Q.5 उस्ताद बिस्मिल्लाह खां का संबंध निम्नलिखित में से किस संगीत वाद्ययंत्र से था?

- Ans
- 1. शहनाई
 - 2. सरोद
 - 3. सारंगी
 - 4. सितार

Question ID : 264330155508
Option 1 ID : 264330609437
Option 2 ID : 264330609435
Option 3 ID : 264330609436
Option 4 ID : 264330609438
Status : Answered
Chosen Option : 1

Q.6 निम्नलिखित में से किस राज्य में मानसून सर्वप्रथम आता है?

- Ans
- 1. हरियाणा
 - 2. उत्तरप्रदेश
 - 3. पंजाब
 - 4. केरल

Question ID : 264330157826
Option 1 ID : 264330618666
Option 2 ID : 264330618665
Option 3 ID : 264330618663
Option 4 ID : 264330618664
Status : Answered
Chosen Option : 4

Q.7 निर्मला पणिकर (Nirmala Panikar) को _____ नृत्य शैली में उनके योगदान के लिए संगीत नाटक अकादमी पुरस्कार-2019 (फरवरी 2023 में दिया गया) से सम्मानित किया गया।

- Ans
- 1. कथक
 - 2. कुचिपुड़ी
 - 3. मोहिनीअट्टम
 - 4. भरतनाट्यम

Question ID : 264330155523
Option 1 ID : 264330609498
Option 2 ID : 264330609496
Option 3 ID : 264330609495
Option 4 ID : 264330609497
Status : Answered
Chosen Option : 4

Q.8 विनेश फोगाट विश्व चैंपियनशिप में कितने पदक जीतने वाली पहली भारतीय महिला पहलवान बनीं?

- Ans
- 1. 2
 - 2. 5
 - 3. 3
 - 4. 6

Question ID : 264330158358
Option 1 ID : 264330620791
Option 2 ID : 264330620793
Option 3 ID : 264330620792
Option 4 ID : 264330620794
Status : Not Answered
Chosen Option : --

Q.9 राजघाट स्मारक किस शहर में स्थित है?

- Ans 1. आगरा
 2. दिल्ली
 3. सूरत
 4. अहमदाबाद

Question ID : 264330160772
Option 1 ID : 264330630420
Option 2 ID : 264330630421
Option 3 ID : 264330630419
Option 4 ID : 264330630422
Status : Answered
Chosen Option : 2

Q.10 बैरी मार्शल (Barry Marshall) और रॉबिन वॉरेन (Robin Warren) ने किस बैक्टीरिया की खोज की थी जो मानव पेट में निवास करता है और लंबे समय तक पेट के ऊपरी हिस्से में छाले (chronic superficial gastritis ulcers) का कारण बनता है?

- Ans 1. हेलिकोबैक्टर पाइलोरी (Helicobacter pylori)
 2. कैम्पिलोबैक्टर जेजुनी (Campylobacter jejuni)
 3. नेइसेरिया गोनोरहोई (Neisseria gonorrhoeae)
 4. एंटामीबा हिस्टोलिटिका (Entamoeba histolytica)

Question ID : 264330161076
Option 1 ID : 264330631636
Option 2 ID : 264330631637
Option 3 ID : 264330631635
Option 4 ID : 264330631638
Status : Not Answered
Chosen Option : --

Q.11 जम्मू और कश्मीर पुनर्गठन अधिनियम (Jammu and Kashmir Reorganization Act) किस वर्ष पारित किया गया था?

- Ans 1. 2019
 2. 2015
 3. 2017
 4. 2009

Question ID : 264330159928
Option 1 ID : 264330627062
Option 2 ID : 264330627059
Option 3 ID : 264330627060
Option 4 ID : 264330627061
Status : Answered
Chosen Option : 1

Q.12 1939 के त्रिपुरी कांग्रेस अध्यक्ष चुनाव में, पट्टाभि सीतारमैया (Pattabhi Sitaramayya) _____ से हार गए थे।

- Ans
- 1. राजेन्द्र प्रसाद
 - 2. सुभाष चंद्र बोस
 - 3. जवाहर लाल नेहरू
 - 4. महात्मा गांधी

Question ID : 264330162323
Option 1 ID : 264330636622
Option 2 ID : 264330636621
Option 3 ID : 264330636620
Option 4 ID : 264330636619
Status : Answered
Chosen Option : 2

Q.13 नवंबर 2022 में, कौन-सा राज्य मानसिक स्वास्थ्य और सामाजिक देखभाल नीति (Mental Health and Social Care Policy) को मंजूरी देने वाला पहला उत्तर-पूर्वी राज्य बन गया?

- Ans
- 1. असम
 - 2. त्रिपुरा
 - 3. मेघालय
 - 4. अरुणाचल प्रदेश

Question ID : 264330158332
Option 1 ID : 264330620689
Option 2 ID : 264330620687
Option 3 ID : 264330620688
Option 4 ID : 264330620690
Status : Not Answered
Chosen Option : --

Q.14 प्रसिद्ध कोयला खनन क्षेत्र 'कोरबा (Korba)' भारत के किस राज्य में स्थित है ?

- Ans
- 1. केरल
 - 2. छत्तीसगढ़
 - 3. हिमाचल प्रदेश
 - 4. तमिलनाडु

Question ID : 264330161525
Option 1 ID : 264330633427
Option 2 ID : 264330633428
Option 3 ID : 264330633430
Option 4 ID : 264330633429
Status : Answered
Chosen Option : 2

Q.15 What do you mean by balanced budget?

- Ans
- 1. Expenditure not equal to revenue
 - 2. Expenditure is less than revenue
 - 3. Expenditure equal to revenue
 - 4. Expenditure more the revenue

Question ID : 264330161453
Option 1 ID : 264330633141
Option 2 ID : 264330633140
Option 3 ID : 264330633139
Option 4 ID : 264330633142
Status : Answered
Chosen Option : 3

Q.16 In optics, which term refers to the opening of the diaphragm of a lens that spatially limits the propagation of light?

- Ans
- 1. Apostilb
 - 2. Collimator
 - 3. Meniscus
 - 4. Aperture

Question ID : 264330161400
Option 1 ID : 264330632929
Option 2 ID : 264330632928
Option 3 ID : 264330632927
Option 4 ID : 264330632930
Status : Answered
Chosen Option : 4

Q.17 लता मंगेशकर को वर्ष _____ में भारत के सर्वोच्च नागरिक सम्मान 'भारत रत्न' से सम्मानित किया गया था।

- Ans
- 1. 2019
 - 2. 2001
 - 3. 2015
 - 4. 2009

Question ID : 264330155507
Option 1 ID : 264330609434
Option 2 ID : 264330609431
Option 3 ID : 264330609433
Option 4 ID : 264330609432
Status : Answered
Chosen Option : 2

Q.18 राजगीर महोत्सव इतिहास, धर्म, कला और संस्कृति का सुंदर प्रतिनिधित्व है। यह _____ में मनाया जाने वाला तीन दिवसीय उत्सव है।

- Ans
- 1. मध्यप्रदेश
 - 2. उत्तरप्रदेश
 - 3. बिहार
 - 4. उत्तराखंड

Question ID : 264330160834
Option 1 ID : 264330630667
Option 2 ID : 264330630669
Option 3 ID : 264330630668
Option 4 ID : 264330630670
Status : Answered
Chosen Option : 3

Q.19 भारत की जनगणना 2011 के अनुसार भारत की कुल जनसंख्या कितनी थी? (लगभग)

- Ans
- 1. 111 करोड़
 - 2. 131 करोड़
 - 3. 101 करोड़
 - 4. 121 करोड़

Question ID : 264330161549
Option 1 ID : 264330633523
Option 2 ID : 264330633526
Option 3 ID : 264330633525
Option 4 ID : 264330633524
Status : Answered
Chosen Option : 4

Q.20 विशाखापत्तनम बंदरगाह किस राज्य में स्थित है?

- Ans
- 1. आंध्र प्रदेश
 - 2. गुजरात
 - 3. ओडिशा
 - 4. महाराष्ट्र

Question ID : 264330160143
Option 1 ID : 264330627912
Option 2 ID : 264330627913
Option 3 ID : 264330627914
Option 4 ID : 264330627911
Status : Answered
Chosen Option : 1

Q.21 पुरुष जूनियर हॉकी एशिया कप 2023 (Men's Junior Hockey Asia Cup 2023), जो भारत ने जीता, _____ में आयोजित किया गया था।

- Ans
- 1. दुबई
 - 2. कतर
 - 3. सऊदी अरब
 - 4. ओमान

Question ID : 264330161147
Option 1 ID : 264330631920
Option 2 ID : 264330631921
Option 3 ID : 264330631922
Option 4 ID : 264330631919
Status : Answered
Chosen Option : 4

Q.22 प्रसिद्ध उपन्यास 'द गॉड ऑफ स्मॉल थिंग्स (The God Of Small Things)' _____ द्वारा लिखा गया है।

- Ans
- 1. विक्रम सेठ
 - 2. शशि थरूर
 - 3. अरुंधति रॉय
 - 4. रस्किन बांड

Question ID : 264330162284
Option 1 ID : 264330636465
Option 2 ID : 264330636466
Option 3 ID : 264330636463
Option 4 ID : 264330636464
Status : Answered
Chosen Option : 3

Q.23 'वेटिंग फॉर अ वीज़ा' (Waiting for a Visa) किसकी आत्मकथा का शीर्षक है?

- Ans
- ✓ 1. डॉ. भीमराव अम्बेडकर
 - ✗ 2. डॉ. राजेंद्र प्रसाद
 - ✗ 3. डॉ. राम मनोहर लोहिया
 - ✗ 4. डॉ. कमल रणदिवे

Question ID : 264330155449
Option 1 ID : 264330609202
Option 2 ID : 264330609199
Option 3 ID : 264330609201
Option 4 ID : 264330609200
Status : Answered
Chosen Option : 3

Q.24 What is a prominent trend in the microfinance sector in India?

- Ans
- ✗ 1. Decreased reliance on digital technology
 - ✓ 2. Integration of mobile banking services
 - ✗ 3. Excessive bureaucracy in loan approvals
 - ✗ 4. Limited focus on women entrepreneurs

Question ID : 264330157293
Option 1 ID : 264330616535
Option 2 ID : 264330616537
Option 3 ID : 264330616538
Option 4 ID : 264330616536
Status : Answered
Chosen Option : 2

Q.25 संस्कृति व शिक्षा के अधिकार का उद्देश्य क्या है?

- Ans
- ✗ 1. किसी विशेष धर्म का प्रचार करना
 - ✓ 2. अल्पसंख्यक समुदायों की भाषा, संस्कृति और धर्म की रक्षा करना
 - ✗ 3. शोषण को रोकना
 - ✗ 4. बहुसंख्यक समुदाय की रक्षा करना

Question ID : 264330162250
Option 1 ID : 264330636328
Option 2 ID : 264330636329
Option 3 ID : 264330636330
Option 4 ID : 264330636327
Status : Answered
Chosen Option : 2

Q.1 Select the most appropriate idiom to fill in the blank.
Jack took on three jobs at once but soon realised he had _____.

- Ans** 1. bitten off more than he could chew
 2. cut corners
 3. played by the ear
 4. taken it with a grain of salt

Question ID : 264330151883
Option 1 ID : 264330595151
Option 2 ID : 264330595152
Option 3 ID : 264330595153
Option 4 ID : 264330595154
Status : Answered
Chosen Option : 1

Q.2 Select the most appropriate meaning of the given idiom.
Keep someone at arm's length

- Ans** 1. To avoid becoming too close or friendly with someone
 2. To ruin someone's plans
 3. Having energy again after being tired
 4. Angry about something

Question ID : 264330155283
Option 1 ID : 264330608578
Option 2 ID : 264330608577
Option 3 ID : 264330608576
Option 4 ID : 264330608575
Status : Answered
Chosen Option : 1

Q.3 Select the INCORRECTLY spelt word.

- Ans** 1. Shield
 2. Vaccum
 3. Perceive
 4. Recognition

Question ID : 264330152827
Option 1 ID : 264330598900
Option 2 ID : 264330598901
Option 3 ID : 264330598902
Option 4 ID : 264330598899
Status : Answered
Chosen Option : 4

Q.4 Select the most appropriate idiom to fill in the blank.

I know it was wrong to distract his friends, but _____.

- Ans
- 1. all's unfair in love and war
 - 2. all's fair in the world
 - 3. all's fair in love and war
 - 4. all's unfair in the world

Question ID : 264330153077
Option 1 ID : 264330599871
Option 2 ID : 264330599872
Option 3 ID : 264330599873
Option 4 ID : 264330599874
Status : Answered
Chosen Option : 3

Q.5 Identify the sentence that contains correct spellings in the given context.

- Ans
- 1. She aced the test daspite being sleep-deprived from studying for nearly 24 hours strait.
 - 2. She acad the test desspite being sleep-deprived from studying for nearly 24 hours straight.
 - 3. She aced the test despite being sleep-deprived from studying for nearly 24 hours straight.
 - 4. She acid the test despote being sleep-deprived from studying for nearly 24 hours straight.

Question ID : 264330153650
Option 1 ID : 264330602070
Option 2 ID : 264330602068
Option 3 ID : 264330602069
Option 4 ID : 264330602067
Status : Answered
Chosen Option : 3

Q.6 The following sentence has been divided into parts. One of them may contain an error. Select the part that contains the error from the given options. If you don't find any error, mark 'No error' as your answer.

With cloud streaming, people can play games from a / internet-connected device, avoiding the need for pricey / dedicated hardware such as a game console.

- Ans
- 1. No error
 - 2. With cloud streaming, people can play games from a
 - 3. dedicated hardware such as a game console
 - 4. internet-connected device, avoiding the need for pricey

Question ID : 264330153196
Option 1 ID : 264330600346
Option 2 ID : 264330600343
Option 3 ID : 264330600345
Option 4 ID : 264330600344
Status : Answered
Chosen Option : 4

Q.7 Select the most appropriate option to fill in the blank.
The teacher assured: "You have completed your homework, _____?"

- Ans**
- 1. have you
 - 2. haven't you
 - 3. hadn't you
 - 4. had you

Question ID : 264330152641
Option 1 ID : 264330598168
Option 2 ID : 264330598167
Option 3 ID : 264330598169
Option 4 ID : 264330598170
Status : Answered
Chosen Option : 2

Q.8 Select the most appropriate option that can rectify the underlined segment in the given sentence. If there is no need to rectify it, select 'no rectification needed'.

This film is a non-stop riot that many cite as one of the funny films of all time.

- Ans**
- 1. funniest
 - 2. more funny
 - 3. funnier
 - 4. no rectification needed

Question ID : 264330153467
Option 1 ID : 264330601383
Option 2 ID : 264330601384
Option 3 ID : 264330601385
Option 4 ID : 264330601386
Status : Answered
Chosen Option : 1

Q.9 Select the most appropriate option to fill in the blank.
The toddler decided to make a mess because he wanted to _____ the attention of its parents.

- Ans**
- 1. seek
 - 2. extract
 - 3. elicit
 - 4. please

Question ID : 264330152637
Option 1 ID : 264330598152
Option 2 ID : 264330598151
Option 3 ID : 264330598153
Option 4 ID : 264330598154
Status : Answered
Chosen Option : 1

Q.10 Select the most appropriate idiom to fill in the blank.
The CEO has _____ than worrying about individual customer complaints.

- Ans
- 1. thrown caution to the wind
 - 2. been walking on thin ice
 - 3. taken a rain check
 - 4. bigger fish to fry

Question ID : 264330151888
Option 1 ID : 264330595174
Option 2 ID : 264330595171
Option 3 ID : 264330595173
Option 4 ID : 264330595172
Status : Answered
Chosen Option : 1

Q.11 Select the option that can be used as a one-word substitute for the given group of words.
One who looks at the dark side of life

- Ans
- 1. Idealist
 - 2. Optimist
 - 3. Pessimist
 - 4. Physicist

Question ID : 264330153361
Option 1 ID : 264330600995
Option 2 ID : 264330600997
Option 3 ID : 264330600998
Option 4 ID : 264330600996
Status : Answered
Chosen Option : 3

Q.12 The following sentence has been divided into four parts. Identify the part that contains an error.
(A) This fridge / (B) comes including / (C) a 5-year / (D) warranty.

- Ans
- 1. B
 - 2. C
 - 3. D
 - 4. A

Question ID : 264330152615
Option 1 ID : 264330598066
Option 2 ID : 264330598065
Option 3 ID : 264330598063
Option 4 ID : 264330598064
Status : Answered
Chosen Option : 1

Q.13 Select the most appropriate ANTONYM of the underlined word.
They waited with anxiety for the final results.

- Ans
- 1. Wilderness
 - 2. Feebleness
 - 3. Calmness
 - 4. Shrewdness

Question ID : 264330151817
Option 1 ID : 264330594898
Option 2 ID : 264330594897
Option 3 ID : 264330594895
Option 4 ID : 264330594896
Status : Answered
Chosen Option : 3

Q.14 The following sentence has been split into four segments. Identify the segment that contains an error.
The school shall reopened / after summer / vacations of / one month.

- Ans
- 1. after summer
 - 2. one month
 - 3. The school shall reopened
 - 4. vacations of

Question ID : 264330151287
Option 1 ID : 264330592784
Option 2 ID : 264330592786
Option 3 ID : 264330592783
Option 4 ID : 264330592785
Status : Answered
Chosen Option : 3

Q.15 Select the option that can be used as a one-word substitute for the given group of words.

A person who regards the whole world as his country

- Ans
- 1. Cosmopolitan
 - 2. Pacifist
 - 3. Contemporary
 - 4. Celibate

Question ID : 264330153537
Option 1 ID : 264330601653
Option 2 ID : 264330601652
Option 3 ID : 264330601651
Option 4 ID : 264330601654
Status : Answered
Chosen Option : 1

Q.16 Select the most appropriate ANTONYM of the word given in brackets to fill in the blank.

A _____ (distinct) sense of restlessness was bothering me when I left the cemetery.

- Ans
- 1. critical
 - 2. vague
 - 3. prior
 - 4. terrible

Question ID : 264330152697
Option 1 ID : 264330598391
Option 2 ID : 264330598392
Option 3 ID : 264330598394
Option 4 ID : 264330598393
Status : Answered
Chosen Option : 1

Q.17 Select the most appropriate option that can substitute the underlined segment in the given sentence.

Many a things are used for the show.

- Ans
- 1. a things is
 - 2. a thing were
 - 3. a things were
 - 4. a thing is

Question ID : 264330153350
Option 1 ID : 264330600954
Option 2 ID : 264330600952
Option 3 ID : 264330600951
Option 4 ID : 264330600953
Status : Answered
Chosen Option : 1

Q.18 Select the INCORRECTLY spelt word.

- Ans
- 1. Assembly
 - 2. Essence
 - 3. Aggregate
 - 4. Transmissible

Question ID : 264330152781
Option 1 ID : 264330598716
Option 2 ID : 264330598718
Option 3 ID : 264330598717
Option 4 ID : 264330598715
Status : Answered
Chosen Option : 4

Q.19 The following sentence has been split into four segments. Identify the segment that contains an error.

The team played / really well, but / they lose the game / in the final minutes.

- Ans
- 1. The team played
 - 2. they lose the game
 - 3. in the final minutes
 - 4. really well, but

Question ID : 264330155320
Option 1 ID : 264330608719
Option 2 ID : 264330608721
Option 3 ID : 264330608722
Option 4 ID : 264330608720
Status : Answered
Chosen Option : 2

Q.20 Select the most appropriate synonym of the given word.
Glimpse

- Ans
- 1. Observe
 - 2. Stare
 - 3. Examine
 - 4. Glance

Question ID : 264330152596
Option 1 ID : 264330597990
Option 2 ID : 264330597988
Option 3 ID : 264330597989
Option 4 ID : 264330597987
Status : Answered
Chosen Option : 4

Comprehension:

In the following passage, some words have been deleted. Read the passage carefully and select the most appropriate option to fill in each blank.

(1)___ the breakfast table the next morning, there was no sign of my wife. I (2)___ she was sleeping late, but Gladolia, upon being questioned, only (3)___ her head, (4)___ something, and turned the whites of her eyes up to the ceiling. I was glad when the meal was (5)___ and hurried to the library for another try at that story.

SubQuestion No : 21

Q.21 Select the most appropriate option to fill in blank no. 1.

- Ans
- 1. On
 - 2. Upon
 - 3. At
 - 4. Above

Question ID : 264330151849
Option 1 ID : 264330595015
Option 2 ID : 264330595016
Option 3 ID : 264330595017
Option 4 ID : 264330595018
Status : Answered
Chosen Option : 3

Comprehension:

In the following passage, some words have been deleted. Read the passage carefully and select the most appropriate option to fill in each blank.

(1)___ the breakfast table the next morning, there was no sign of my wife. I (2)___ she was sleeping late, but Gladolia, upon being questioned, only (3)___ her head, (4)___ something, and turned the whites of her eyes up to the ceiling. I was glad when the meal was (5)___ and hurried to the library for another try at that story.

SubQuestion No : 22

Q.22 Select the most appropriate option to fill in blank no. 2.

- Ans
- 1. decided
 - 2. accepted
 - 3. concluded
 - 4. examined

Question ID : 264330151850

Option 1 ID : 264330595019

Option 2 ID : 264330595020

Option 3 ID : 264330595022

Option 4 ID : 264330595021

Status : Answered

Chosen Option : 3

Comprehension:

In the following passage, some words have been deleted. Read the passage carefully and select the most appropriate option to fill in each blank.

(1)___ the breakfast table the next morning, there was no sign of my wife. I (2)___ she was sleeping late, but Gladolia, upon being questioned, only (3)___ her head, (4)___ something, and turned the whites of her eyes up to the ceiling. I was glad when the meal was (5)___ and hurried to the library for another try at that story.

SubQuestion No : 23

Q.23 Select the most appropriate option to fill in blank no. 3.

- Ans
- 1. rotated
 - 2. stirred
 - 3. shook
 - 4. adjusted

Question ID : 264330151851

Option 1 ID : 264330595026

Option 2 ID : 264330595023

Option 3 ID : 264330595024

Option 4 ID : 264330595025

Status : Answered

Chosen Option : 1

Comprehension:

In the following passage, some words have been deleted. Read the passage carefully and select the most appropriate option to fill in each blank.

(1)___ the breakfast table the next morning, there was no sign of my wife. I (2)___ she was sleeping late, but Gladolia, upon being questioned, only (3)___ her head, (4)___ something, and turned the whites of her eyes up to the ceiling. I was glad when the meal was (5)___ and hurried to the library for another try at that story.

SubQuestion No : 24

Q.24 Select the most appropriate option to fill in blank no. 4.

Ans 1. mutilated

2. mugged

3. muffed

4. muttered

Question ID : 264330151852

Option 1 ID : 264330595030

Option 2 ID : 264330595028

Option 3 ID : 264330595029

Option 4 ID : 264330595027

Status : Answered

Chosen Option : 1

Comprehension:

In the following passage, some words have been deleted. Read the passage carefully and select the most appropriate option to fill in each blank.

(1)___ the breakfast table the next morning, there was no sign of my wife. I (2)___ she was sleeping late, but Gladolia, upon being questioned, only (3)___ her head, (4)___ something, and turned the whites of her eyes up to the ceiling. I was glad when the meal was (5)___ and hurried to the library for another try at that story.

SubQuestion No : 25

Q.25 Select the most appropriate option to fill in blank no. 5.

Ans 1. removed

2. over

3. undone

4. through

Question ID : 264330151853

Option 1 ID : 264330595033

Option 2 ID : 264330595031

Option 3 ID : 264330595034

Option 4 ID : 264330595032

Status : Answered

Chosen Option : 2

Multi Tasking Non Technical Staff and Havaladar CBIC and CBN Examination 2023

Roll Number	KD Job Updates
Candidate Name	KD Job Updates
Venue Name	iON Digital Zone iDZ 1 Odhav
Exam Date	13/09/2023
Exam Time	12:30 PM - 2:30 PM
Subject	MTS Non Tech Havaladar CBIC and CBN Examination 2023

Section : Numerical and Mathematical Ability

Q.1 कितनी धनराशि (र में) चार वर्षों में 9% वार्षिक साधारण ब्याज की दर से ₹20,400 हो जाएगी?

- Ans
- 1. 18,000
 - 2. 20,000
 - 3. 15,000
 - 4. 12,000

Question ID : 264330156485
Option 1 ID : 264330613327
Option 2 ID : 264330613328
Option 3 ID : 264330613330
Option 4 ID : 264330613329
Status : Answered
Chosen Option : 3

Q.2 निम्नलिखित व्यंजक को सरल कीजिए।

$$\left(\frac{5}{3} + \frac{6}{5} \div \frac{18}{5}\right) \text{ of } \frac{5}{12} - \left(\frac{5}{6} \div \frac{5}{12}\right) \text{ of } \frac{5}{12} + \frac{2}{3} \text{ of } \frac{3}{2}$$

- Ans
- 1. 1
 - 2. $\frac{5}{6}$
 - 3. 0
 - 4. $\frac{6}{5}$

Question ID : 264330153832
Option 1 ID : 264330602792
Option 2 ID : 264330602793
Option 3 ID : 264330602791
Option 4 ID : 264330602794
Status : Answered
Chosen Option : 1

Q.3 A किसी काम को 40 दिनों में पूरा कर सकता है और B उसी काम को 60 दिनों में पूरा कर सकता है। वे 8 दिनों तक साथ मिलकर काम करते हैं। काम का कितना अंश शेष है?

- Ans**
- 1. $\frac{2}{5}$
 - 2. $\frac{1}{3}$
 - 3. $\frac{1}{5}$
 - 4. $\frac{2}{3}$

Question ID : 264330155973

Option 1 ID : 264330611294

Option 2 ID : 264330611291

Option 3 ID : 264330611293

Option 4 ID : 264330611292

Status : Answered

Chosen Option : 4

Q.4 नीचे दी गई तालिका में वर्ष 2016 में आयु वर्ग के अनुसार एक कस्बे की कुल जनसंख्या के प्रतिशत को दर्शाया गया है।

Age Group (in years)	Per cent
up to 15	35
16-30	18.5
30-40	12.5
40-50	25.77
51 and above	8.23

संदर्भ : Age group (in years) - आयु वर्ग (वर्षों में), per cent- प्रतिशत, up to 15 – 15 वर्ष तक के, 51 and above – 51 वर्ष और उससे अधिक के

प्रत्येक 1920 व्यक्तियों में से 16 वर्ष से कम आयु के व्यक्तियों की संख्या कितनी है?

- Ans**
- 1. 672
 - 2. 1027
 - 3. 312
 - 4. 355

Question ID : 264330153886

Option 1 ID : 264330603008

Option 2 ID : 264330603010

Option 3 ID : 264330603009

Option 4 ID : 264330603007

Status : Answered

Chosen Option : 1

Q.5 यदि 25, 35 और 40 छात्रों वाले कक्षा IX के तीन वर्गों के औसत अंक क्रमशः 60, 70 और 80 हैं, तो कक्षा IX के सभी छात्रों के औसत अंक कितने हैं?

- Ans**
- 1. 75
 - 2. 72
 - 3. 71.5
 - 4. 70.5

Question ID : 264330156467

Option 1 ID : 264330613255

Option 2 ID : 264330613258

Option 3 ID : 264330613256

Option 4 ID : 264330613257

Status : Answered

Chosen Option : 3

Q.6 एक पुलिसकर्मी एक चोर को देखकर उसका पीछा करना शुरू कर देता है। चोर और पुलिसकर्मी के बीच की दूरी 200 m है और चोर की चाल 8 km/h है। यदि पुलिसकर्मी चोर को 20 मिनट में पकड़ लेता है। तो पुलिसकर्मी की चाल _____ km/h है।

- Ans**
- ✓ 1. 8.6
 - ✗ 2. 8.4
 - ✗ 3. 9.2
 - ✗ 4. 8.2

Question ID : 264330153812
Option 1 ID : 264330602714
Option 2 ID : 264330602713
Option 3 ID : 264330602711
Option 4 ID : 264330602712
Status : Answered
Chosen Option : 1

Q.7 $2 \times 3 \times 4$ इकाई और $2 \times 5 \times 4$ इकाई आयामों वाले दो घनाभों को पिघलाकर एक घन बनाया जाता है। इस घन की भुजा इकाई में क्या है?

- Ans**
- ✗ 1. 3.5
 - ✗ 2. 2.5
 - ✗ 3. 3.0
 - ✓ 4. 4.0

Question ID : 264330153828
Option 1 ID : 264330602777
Option 2 ID : 264330602775
Option 3 ID : 264330602776
Option 4 ID : 264330602778
Status : Answered
Chosen Option : 4

Q.8 तीन वर्ष पहले, एक कार का मूल्य ₹2,50,000 था। यदि कार के मूल्य में हर वर्ष 6% की गिरावट आती है, तो कार का वर्तमान मूल्य कितना है?

- Ans**
- ✗ 1. ₹2,07,466
 - ✓ 2. ₹2,07,646
 - ✗ 3. ₹2,04,766
 - ✗ 4. ₹2,04,676

Question ID : 264330153879
Option 1 ID : 264330602979
Option 2 ID : 264330602980
Option 3 ID : 264330602982
Option 4 ID : 264330602981
Status : Answered
Chosen Option : 2

Q.9 एक संख्या में $\frac{75}{2}$ % की कमी करने पर 378 प्राप्त होता है। वह संख्या ज्ञात कीजिए।

- Ans
- ✓ 1. 604.8
 - ✗ 2. 603.2
 - ✗ 3. 606.4
 - ✗ 4. 608.0

Question ID : 264330155698
Option 1 ID : 264330610196
Option 2 ID : 264330610195
Option 3 ID : 264330610197
Option 4 ID : 264330610198
Status : Answered
Chosen Option : 1

Q.10 एक मेडिकल स्टोर के मालिक ने एक कंपनी से ₹18,000 की दवाएं खरीदीं। वह दवा का $\frac{2}{5}$ भाग 35% की हानि पर बेचता है। उसे शेष दवाइयां किस लाभ पर बेचनी चाहिए ताकि उसे न तो कोई लाभ हो और न ही हानि?

- Ans
- ✗ 1. $20\frac{2}{3}$ %
 - ✗ 2. $23\frac{2}{3}$ %
 - ✓ 3. $23\frac{1}{3}$ %
 - ✗ 4. $20\frac{1}{3}$ %

Question ID : 264330155736
Option 1 ID : 264330610350
Option 2 ID : 264330610348
Option 3 ID : 264330610349
Option 4 ID : 264330610347
Status : Answered
Chosen Option : 3

Q.11 A और B की आय का अनुपात 5 : 4 है और B और C की आय का अनुपात 5 : 6 है। A और C की आय का अनुपात क्या है?

- Ans
- ✗ 1. 5 : 6
 - ✗ 2. 6 : 5
 - ✓ 3. 25 : 24
 - ✗ 4. 24 : 25

Question ID : 264330153805
Option 1 ID : 264330602685
Option 2 ID : 264330602686
Option 3 ID : 264330602683
Option 4 ID : 264330602684
Status : Answered
Chosen Option : 3

Q.12 एक मिश्रण में स्पिरिट और पानी का अनुपात 3 : 2 है। यदि इस मिश्रण में 2 लीटर पानी मिला दिया जाए तो अनुपात 5 : 4 हो जाता है। मिश्रण में स्पिरिट की मात्रा (लीटर में) ज्ञात कीजिए।

- Ans**
- 1. 20
 - 2. 25
 - 3. 15
 - 4. 10

Question ID : 264330153844

Option 1 ID : 264330602839

Option 2 ID : 264330602841

Option 3 ID : 264330602840

Option 4 ID : 264330602842

Status : Answered

Chosen Option : 3

Q.13 एक महिला 150 मीटर की दूरी 30 मिनट में तय करती है और अगले 350 मीटर की दूरी 50 मिनट में तय करती है। पूरी यात्रा के दौरान उसकी औसत चाल कितनी है?

- Ans**
- 1. $\frac{11}{24}$ km/h
 - 2. $\frac{7}{24}$ km/h
 - 3. $\frac{21}{24}$ km/h
 - 4. $\frac{9}{24}$ km/h

Question ID : 264330156513

Option 1 ID : 264330613439

Option 2 ID : 264330613442

Option 3 ID : 264330613441

Option 4 ID : 264330613440

Status : Answered

Chosen Option : 4

Q.14 एक कक्षा के औसत अंकों की गणना करते समय एक विद्यार्थी के अंकों को त्रुटिवश 45 के स्थान पर 54 दर्ज करने पर कक्षा के औसत अंकों में 0.5 की वृद्धि हो जाती है। कक्षा में विद्यार्थियों की संख्या कितनी है?

- Ans**
- 1. 54
 - 2. 45
 - 3. 36
 - 4. 18

Question ID : 264330154041

Option 1 ID : 264330603627

Option 2 ID : 264330603628

Option 3 ID : 264330603630

Option 4 ID : 264330603629

Status : Answered

Chosen Option : 4

Q.15 A और B एक काम को 5 दिनों में कर सकते हैं। B और C उसी काम को 8 दिनों में कर सकते हैं, जबकि C और A उसी काम को 16 दिनों में कर सकते हैं। वह समय ज्ञात कीजिए (दिनों में) जिसमें A, B और C साथ मिलकर काम करते हुए काम को पूरा कर सकते हैं।

- Ans**
- 1. $5\frac{4}{31}$
 - 2. $5\frac{5}{31}$
 - 3. $5\frac{5}{17}$
 - 4. $4\frac{5}{31}$

Question ID : 264330155756

Option 1 ID : 264330610428

Option 2 ID : 264330610429

Option 3 ID : 264330610430

Option 4 ID : 264330610427

Status : Answered

Chosen Option : 2

Q.16 उस घन का आयतन ज्ञात कीजिए जिसकी प्रत्येक भुजा की माप 7 cm है।

- Ans**
- 1. 49 cm^3
 - 2. 282 cm^3
 - 3. 343 cm^3
 - 4. 294 cm^3

Question ID : 264330153895

Option 1 ID : 264330603043

Option 2 ID : 264330603044

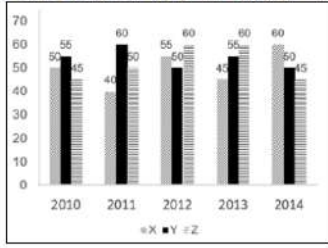
Option 3 ID : 264330603045

Option 4 ID : 264330603046

Status : Answered

Chosen Option : 3

Q.17 निम्न आलेख में कुछ वर्षों में तीन अलग-अलग कंपनियों X, Y और Z द्वारा टायरों के उत्पादन (लाखों में) को दर्शाया गया है।
निर्देश: निम्नलिखित आलेख का ध्यानपूर्वक अध्ययन कीजिए और नीचे दिए गए प्रश्न का उत्तर दीजिए।



2010 में कंपनी Z के उत्पादन और 2014 में कंपनी X के उत्पादन के बीच कितना अंतर है?

- Ans
- 1. 20 लाख
 - 2. 5 लाख
 - 3. 10 लाख
 - 4. 15 लाख

Question ID : 264330153888

Option 1 ID : 264330603018

Option 2 ID : 264330603017

Option 3 ID : 264330603015

Option 4 ID : 264330603016

Status : Answered

Chosen Option : 4

Q.18 एक व्यक्ति 750 m लंबी सड़क को 5 मिनट में पार करता है। km/h में उसकी चाल ज्ञात कीजिए।

- Ans
- 1. 10.80
 - 2. 9.00
 - 3. 8.40
 - 4. 7.20

Question ID : 264330156365

Option 1 ID : 264330612862

Option 2 ID : 264330612861

Option 3 ID : 264330612860

Option 4 ID : 264330612859

Status : Answered

Chosen Option : 2

Q.19 रमेश ने ₹1,275 में एक बैग खरीदा और उसे 15% के लाभ पर बेच दिया, लेकिन विक्रय मूल्य पर गणना की। बैग का विक्रय मूल्य ज्ञात कीजिए।

- Ans
- 1. ₹1,500
 - 2. ₹1,400
 - 3. ₹1,475
 - 4. ₹1,325

Question ID : 264330158210

Option 1 ID : 264330620202

Option 2 ID : 264330620200

Option 3 ID : 264330620201

Option 4 ID : 264330620199

Status : Answered

Chosen Option : 1

Q.20 दो संख्याओं का लघुत्तम समापवर्त्य 1440 है और उनका महत्तम समापवर्तक 32 है। यदि पहली संख्या 288 है, तो दूसरी संख्या ज्ञात कीजिए।

- Ans**
- 1. 150
 - 2. 160
 - 3. 145
 - 4. 180

Question ID : 264330155724
Option 1 ID : 264330610300
Option 2 ID : 264330610299
Option 3 ID : 264330610301
Option 4 ID : 264330610302
Status : Answered
Chosen Option : 2

Section : Reasoning Ability and Problem Solving

Q.1 उस विकल्प आकृति को चुनिए जिसमें दी गई आकृति (X) उसके भाग के रूप में निहित है। (घूर्णन की अनुमति नहीं है)



Ans

- 1.
- 2.
- 3.
- 4.

Question ID : 264330151731
Option 1 ID : 264330594554
Option 2 ID : 264330594551
Option 3 ID : 264330594552
Option 4 ID : 264330594553
Status : Answered
Chosen Option : 2

Q.2 नीचे दिए गए कथनों और निष्कर्षों को ध्यानपूर्वक पढ़िए। आपको मानना है कि दिए गए कथन सत्य हैं चाहे वे समान्यतः ज्ञात तथ्यों से अलग प्रतीत हों। आपको निश्चय करना है कि कौन-सा/कौन-से निष्कर्ष तार्किक रूप से दिए गए कथनों के अनुसार है/हैं।

कथन: कुछ कुर्सियाँ, पंखे हैं। सभी पंखे, बर्तन हैं। कुछ बर्तन, गरम हैं।

निष्कर्ष I: कुछ पंखे, कुर्सियाँ हैं।

निष्कर्ष II: कुछ गरम, बर्तन हैं।

- Ans**
- 1. न तो निष्कर्ष (I) और न ही (II) कथनों के अनुसार है।
 - 2. दोनों निष्कर्ष (I) और (II) कथनों के अनुसार हैं।
 - 3. केवल निष्कर्ष (I) कथनों के अनुसार है।
 - 4. केवल निष्कर्ष (II) कथनों के अनुसार है।

Question ID : 264330155897

Option 1 ID : 264330610993

Option 2 ID : 264330610994

Option 3 ID : 264330610991

Option 4 ID : 264330610992

Status : Answered

Chosen Option : 2

Q.3 यदि F का अर्थ '-', G का अर्थ '×', D का अर्थ '+', B का अर्थ '=', है, तो निम्नलिखित समीकरण में प्रश्न चिह्न (?) के स्थान पर क्या आएगा?
15 G 10 D 30 B 43 F 28 = ?

- Ans**
- 1. 30
 - 2. 25
 - 3. 10
 - 4. 20

Question ID : 264330154683

Option 1 ID : 264330606198

Option 2 ID : 264330606197

Option 3 ID : 264330606195

Option 4 ID : 264330606196

Status : Answered

Chosen Option : 4

Q.4 एक निश्चित कूट भाषा में, 'DEAF' को '5718' लिखा जाता है और 'HEAD' को '8137' लिखा जाता है। उसी कूट भाषा में 'H' को कैसे लिखा जाएगा?

- Ans**
- 1. 3
 - 2. 1
 - 3. 8
 - 4. 7

Question ID : 264330151694

Option 1 ID : 264330594403

Option 2 ID : 264330594405

Option 3 ID : 264330594406

Option 4 ID : 264330594404

Status : Answered

Chosen Option : 1

Q.5 एक निश्चित तर्क के अनुसार 12, 59 से संबंधित है। समान तर्क के अनुसार, 17, 84 से संबंधित है। समान तर्क का अनुसरण करते हुए 19 निम्नलिखित में से किससे संबंधित है?

- Ans
- 1. 91
 - 2. 94
 - 3. 93
 - 4. 92

Question ID : 264330151588
Option 1 ID : 264330593979
Option 2 ID : 264330593982
Option 3 ID : 264330593981
Option 4 ID : 264330593980
Status : Answered
Chosen Option : 2

Q.6 दी गई श्रृंखला में प्रश्न चिन्ह '?' के स्थान पर क्या आना चाहिए?

46 ? 358 1060 3166 9484 28438

- Ans
- 1. 116
 - 2. 122
 - 3. 132
 - 4. 124

Question ID : 264330151444
Option 1 ID : 264330593406
Option 2 ID : 264330593403
Option 3 ID : 264330593404
Option 4 ID : 264330593405
Status : Answered
Chosen Option : 4

Q.7 अक्षरों के उस संयोजन को चुनिए जिसे दी गई श्रृंखला के रिक्त स्थानों में क्रमिक रूप से रखने पर श्रृंखला पूरी हो जाएगी।

P _ Q _ QQ _ _ Q P _ Q

- Ans
- 1. PPQQP
 - 2. QPPQQ
 - 3. PPQPP
 - 4. QPQPQ

Question ID : 264330151651
Option 1 ID : 264330594231
Option 2 ID : 264330594232
Option 3 ID : 264330594233
Option 4 ID : 264330594234
Status : Answered
Chosen Option : 2

Q.8 दी गई श्रृंखला में प्रश्न चिह्न '?' के स्थान पर क्या आना चाहिए?

10 21 43 87 175 ?

- Ans
- ✓ 1. 351
 - ✗ 2. 308
 - ✗ 3. 367
 - ✗ 4. 376

Question ID : 264330151556
Option 1 ID : 264330593854
Option 2 ID : 264330593853
Option 3 ID : 264330593852
Option 4 ID : 264330593851
Status : Answered
Chosen Option : 1

Q.9 उस शब्द-युग्म का चयन कीजिए जो नीचे दिए गए शब्दों के युग्म में व्यक्त किए गए समान संबंध का सबसे अच्छा निरूपण करता है।

(शब्दों को अर्थपूर्ण हिंदी शब्दों के रूप में माना जाना चाहिए और उन्हें शब्द में अक्षरों की संख्या/व्यंजन/स्वरों की संख्या के आधार पर एक दूसरे से संबंधित नहीं किया जाना चाहिए।)

लावा : ज्वालामुखी

- Ans
- ✓ 1. भाप : गरम पानी का झरना
 - ✗ 2. हिमस्खलन : बर्फ
 - ✗ 3. जलप्रपात : खड़ी चट्टान
 - ✗ 4. बर्फ : कांच

Question ID : 264330154637
Option 1 ID : 264330606013
Option 2 ID : 264330606014
Option 3 ID : 264330606012
Option 4 ID : 264330606011
Status : Answered
Chosen Option : 1

Q.10 एक निश्चित तर्क के अनुसार 10, 97 से संबंधित है। समान तर्क के अनुसार, 12, 141 से संबंधित है। समान तर्क का अनुसरण करते हुए 14 निम्नलिखित में से किससे संबंधित है?

- Ans
- ✗ 1. 191
 - ✓ 2. 193
 - ✗ 3. 192
 - ✗ 4. 194

Question ID : 264330151600
Option 1 ID : 264330594027
Option 2 ID : 264330594029
Option 3 ID : 264330594028
Option 4 ID : 264330594030
Status : Answered
Chosen Option : 2

Q.11 एक निश्चित कूट भाषा में, 'krishi might be coming' को 'gi ji hi fi' लिखा जाता है और 'prem will be going' को 'li mi ri hi' लिखा जाता है। उसी कूट भाषा में 'be' को कैसे लिखा जाएगा?

- Ans
- 1. li
 - 2. hi
 - 3. mi
 - 4. ri

Question ID : 264330155636

Option 1 ID : 264330609947

Option 2 ID : 264330609949

Option 3 ID : 264330609948

Option 4 ID : 264330609950

Status : Answered

Chosen Option : 2

Q.12 यदि निम्नलिखित आकृति श्रृंखला को जारी रखना हो तो कौन-सी आकृति प्रश्न चिन्ह (?) के स्थान पर आनी चाहिए?

Z	7	4	=	
B 4 7 =	= Z S B S	B = Z	Z 4 F S	?
S	4	F	B	

Ans

1.

B
F S 4 Z
△

2.

B
S Z 4 F
△

3.

S
= F 4 B
Z

4.

B
F S Z 4
△

Question ID : 264330154749

Option 1 ID : 264330606462

Option 2 ID : 264330606461

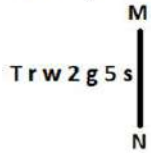
Option 3 ID : 264330606459

Option 4 ID : 264330606460

Status : Answered

Chosen Option : 2

Q.13 दी गई आकृति के उस सही दर्पण प्रतिबिंब को चुनिए, जो नीचे दर्शाए गए अनुसार दर्पण को MN पर रखने पर बनेगा।



- Ans
- 1. r 2 g 5 M 1 T
 - 2. r 2 g w 2 1 T
 - 3. r 2 g 5 w 1 T
 - 4. s 5 g 2 w 1 T

Question ID : 264330151517

Option 1 ID : 264330593695

Option 2 ID : 264330593697

Option 3 ID : 264330593698

Option 4 ID : 264330593696

Status : Answered

Chosen Option : 3

Q.14 यदि 7 नवंबर 2005 को सोमवार है, तो 17 नवंबर 2015 को सप्ताह का कौन-सा दिन होगा?

- Ans
- 1. शुक्रवार
 - 2. मंगलवार
 - 3. शनिवार
 - 4. सोमवार

Question ID : 264330154336

Option 1 ID : 264330604809

Option 2 ID : 264330604807

Option 3 ID : 264330604810

Option 4 ID : 264330604808

Status : Answered

Chosen Option : 2

Q.15 दी गई श्रृंखला में प्रश्न चिह्न '?' के स्थान पर क्या आना चाहिए?

16 20 28 40 56 ?

- Ans
- 1. 75
 - 2. 76
 - 3. 69
 - 4. 78

Question ID : 264330151714

Option 1 ID : 264330594486

Option 2 ID : 264330594483

Option 3 ID : 264330594485

Option 4 ID : 264330594484

Status : Answered

Chosen Option : 2

Q.16 अंग्रेजी वर्णमाला क्रम के आधार पर दी गई श्रृंखला में प्रश्न चिह्न (?) के स्थान पर क्या आना चाहिए?

FQS, IUT, LYU, OCV, ?

- Ans
- 1. QHU
 - 2. QFV
 - 3. RGW
 - 4. SHV

Question ID : 264330155798

Option 1 ID : 264330610597

Option 2 ID : 264330610595

Option 3 ID : 264330610596

Option 4 ID : 264330610598

Status : Answered

Chosen Option : 3

Q.17 अंग्रेजी वर्णमाला क्रम के आधार पर दी गई श्रृंखला में प्रश्न चिह्न (?) के स्थान पर क्या आना चाहिए?

YIQ, AKR, CMS, EOT, ?

- Ans
- 1. GQU
 - 2. FPU
 - 3. HPV
 - 4. FRV

Question ID : 264330155785

Option 1 ID : 264330610544

Option 2 ID : 264330610545

Option 3 ID : 264330610546

Option 4 ID : 264330610543

Status : Answered

Chosen Option : 1

Q.18 K, L, M, N, O, P, Q और R एक वर्गाकार मेज के चारों ओर केन्द्र की ओर मुख करके बैठे हैं। उनमें से कुछ मेज के कोनों पर बैठे हैं जबकि कुछ भुजाओं के ठीक मध्य में बैठे हैं। R, Q के दाईं ओर से दूसरे स्थान पर बैठा है। Q किसी एक कोने में बैठा है। M, N के बाईं ओर से तीसरे स्थान पर बैठा है। M किसी भी कोने में नहीं बैठा है। Q और R का निकटतम पड़ोसी O है। K, N का पड़ोसी नहीं है। L, R के बाईं ओर से तीसरे स्थान पर बैठा है। K के दाईं ओर से गिनने पर, K और Q के बीच में कितने व्यक्ति बैठे हैं?

- Ans
- 1. तीन
 - 2. चार
 - 3. एक
 - 4. दो

Question ID : 264330155537

Option 1 ID : 264330609553

Option 2 ID : 264330609554

Option 3 ID : 264330609551

Option 4 ID : 264330609552

Status : Answered

Chosen Option : 1

Q.19 नीचे दिए गए कथनों और निष्कर्षों को ध्यानपूर्वक पढ़िए। आपको मानना है कि दिए गए कथन सत्य हैं चाहे वे समान्यतः ज्ञात तथ्यों से अलग प्रतीत होते हों। आपको निश्चय करना है कि कौन-सा/कौन-से निष्कर्ष तार्किक रूप से दिए गए कथनों के अनुसार है/हैं।

कथन: सभी वूल, क्रोशिया हैं। कुछ क्रोशिया, स्कर्ट हैं। सभी स्कर्ट, ब्रेड हैं।

निष्कर्ष I: कुछ क्रोशिया, वूल हैं।

निष्कर्ष II: कुछ ब्रेड, क्रोशिया हैं।

- Ans**
- 1. न तो निष्कर्ष (I) और न ही (II) कथनों के अनुसार है।
 - 2. केवल निष्कर्ष (II) कथनों के अनुसार है।
 - 3. केवल निष्कर्ष (I) कथनों के अनुसार है।
 - 4. दोनों निष्कर्ष (I) और (II) कथनों के अनुसार हैं।

Question ID : 264330155933

Option 1 ID : 264330611137

Option 2 ID : 264330611136

Option 3 ID : 264330611135

Option 4 ID : 264330611138

Status : Answered

Chosen Option : 4

Q.20 If 'P' stands for '×', 'Q' stands for '+', 'R' stands for '-' and 'S' stands for '÷', what will come in place of the question mark (?) in the following equation?
9 P 9 R (7 P 3) S 24 R 6 P 2 = ?

- Ans**
- 1. 76
 - 2. 54
 - 3. 72
 - 4. 63

Question ID : 264330151794

Option 1 ID : 264330594804

Option 2 ID : 264330594803

Option 3 ID : 264330594806

Option 4 ID : 264330594805

Status : Answered

Chosen Option : 3

Section : General Awareness

Q.1 निम्नलिखित में से कौन-सा पूर्वी घाट शिखर का उदाहरण है?

- Ans**
- 1. गुरु शिखर (Guru Shikhar)
 - 2. अनाइमुडी (Anamudi)
 - 3. डोड्डाबेट्टा (Doddabetta)
 - 4. महेन्द्रगिरी (Mahendragiri)

Question ID : 264330161494

Option 1 ID : 264330633305

Option 2 ID : 264330633304

Option 3 ID : 264330633303

Option 4 ID : 264330633306

Status : Answered

Chosen Option : 4

Q.2 An image of which of the following elements is shown by the map of Cyprus from which the element got its name?

- Ans
- 1. Cobalt
 - 2. Silver
 - 3. Sulphur
 - 4. Copper

Question ID : 264330161058
Option 1 ID : 264330631566
Option 2 ID : 264330631564
Option 3 ID : 264330631563
Option 4 ID : 264330631565
Status : Not Answered
Chosen Option : --

Q.3 Which of the following music directors is known as 'Mozart of Madras'?

- Ans
- 1. AR Rahman
 - 2. Madan Mohan
 - 3. RD Burman
 - 4. Himesh Reshammiya

Question ID : 264330162285
Option 1 ID : 264330636468
Option 2 ID : 264330636470
Option 3 ID : 264330636467
Option 4 ID : 264330636469
Status : Answered
Chosen Option : 1

Q.4 भारत के उपराष्ट्रपति का कार्यकाल कितना होता है?

- Ans
- 1. 6 साल
 - 2. 5 साल
 - 3. जब तक वह पद पर बने रहना चाहते है
 - 4. 65 वर्ष की आयु तक

Question ID : 264330159911
Option 1 ID : 264330626992
Option 2 ID : 264330626993
Option 3 ID : 264330626994
Option 4 ID : 264330626991
Status : Answered
Chosen Option : 2

Q.5 देबा प्रसाद दास, पंकज चरण दास और गंगाधर प्रधान का संबंध निम्नलिखित में से किस नृत्य शैली से है?

- Ans
- 1. मणिपुरी
 - 2. ओडिसी
 - 3. भरतनाट्यम
 - 4. कथक

Question ID : 264330160814
Option 1 ID : 264330630590
Option 2 ID : 264330630587
Option 3 ID : 264330630589
Option 4 ID : 264330630588
Status : Answered
Chosen Option : 2

Q.6 The Pradhan Mantri Garib Kalyan Rojgar Abhiyaan (PMGKRA) was launched in the year 2020 by which Ministry of Government of India?

- Ans**
- 1. Ministry of Social Justice and Empowerment
 - 2. Ministry of Rural Development
 - 3. Ministry of Ports, Shipping and Waterways
 - 4. Ministry of Micro, Small and Medium Enterprises

Question ID : 264330161577
Option 1 ID : 264330633636
Option 2 ID : 264330633638
Option 3 ID : 264330633637
Option 4 ID : 264330633635
Status : Answered
Chosen Option : 2

Q.7 Which of the following was the first major and decisive victory for the East India Company on the soil of India?

- Ans**
- 1. First Anglo-Maratha War
 - 2. Battle of Tiruvannamalai
 - 3. Battle of Sindhuli
 - 4. Battle of Plassey

Question ID : 264330161736
Option 1 ID : 264330634272
Option 2 ID : 264330634271
Option 3 ID : 264330634274
Option 4 ID : 264330634273
Status : Answered
Chosen Option : 4

Q.8 The Digital Lok Adalat, powered by AI (Artificial Intelligence) and Blockchain, was launched by the then National Legal Services Authority Chairman _____ during the 18th All India Legal Services Authorities' meet held in Jaipur in July 2022.

- Ans**
- 1. Justice RN Mishra
 - 2. Justice AS Anand
 - 3. Justice Uday Umesh Lalit
 - 4. Justice DY Chandrachud

Question ID : 264330161412
Option 1 ID : 264330632978
Option 2 ID : 264330632977
Option 3 ID : 264330632975
Option 4 ID : 264330632976
Status : Answered
Chosen Option : 3

Q.9 युकी भांबरी (Yuki Bhambri) और साकेत माइनेनी (Saketh Myneni) ने बैकॉक ओपन चैलेंजर खिताब 2023 जीता। वे किस खेल से संबंधित हैं?

- Ans
- 1. बैडमिंटन
 - 2. टेनिस
 - 3. स्काश
 - 4. टेबल टेनिस

Question ID : 264330158368
Option 1 ID : 264330620832
Option 2 ID : 264330620831
Option 3 ID : 264330620834
Option 4 ID : 264330620833
Status : Answered
Chosen Option : 2

Q.10 भानु जी का संबंध निम्नलिखित में से किस कथक घराने से है?

- Ans
- 1. जयपुर
 - 2. लखनऊ
 - 3. बनारस
 - 4. रायगढ़

Question ID : 264330160808
Option 1 ID : 264330630563
Option 2 ID : 264330630564
Option 3 ID : 264330630565
Option 4 ID : 264330630566
Status : Answered
Chosen Option : 1

Q.11 What does the term 'Overdraft' mean in banking?

- Ans
- 1. Short-term financing facility
 - 2. The interest charged on loans
 - 3. The process of transferring funds between bank accounts
 - 4. The maximum withdrawal limit from an ATM

Question ID : 264330161586
Option 1 ID : 264330633674
Option 2 ID : 264330633672
Option 3 ID : 264330633671
Option 4 ID : 264330633673
Status : Answered
Chosen Option : 1

Q.12 निम्नलिखित में से हिंदी उपन्यास 'राग दरबारी' के लेखक कौन हैं?

- Ans
- 1. प्रेमचंद
 - 2. श्रीलाल शुक्ल
 - 3. राहुल सांकृत्यायन
 - 4. काशीनाथ सिंह

Question ID : 264330161763
Option 1 ID : 264330634381
Option 2 ID : 264330634382
Option 3 ID : 264330634380
Option 4 ID : 264330634379
Status : Answered
Chosen Option : 1

Q.13 Which of the following terms best describes the average number of runs a batter makes per 100 deliveries in cricket?

- Ans
- 1. Economy rate
 - 2. Batting average
 - 3. Batting rate
 - 4. Strike rate

Question ID : 264330161160
Option 1 ID : 264330631971
Option 2 ID : 264330631973
Option 3 ID : 264330631974
Option 4 ID : 264330631972
Status : Answered
Chosen Option : 4

Q.14 Which of the following is NOT a fundamental duty listed in the Indian Constitution?

- Ans
- 1. To safeguard public property and to abjure violence
 - 2. To value and preserve the rich heritage of our composite culture
 - 3. To engage in political activities to promote democracy
 - 4. To uphold and protect the sovereignty, unity and integrity of India

Question ID : 264330162246
Option 1 ID : 264330636312
Option 2 ID : 264330636313
Option 3 ID : 264330636314
Option 4 ID : 264330636311
Status : Answered
Chosen Option : 3

Q.15 भारतीय इतिहास में भारतीय संसद के उच्च सदन, राज्य सभा के सदस्य के रूप में मनोनीत होने वाली पहली महिला शास्त्रीय नर्तकी कौन है?

- Ans
- 1. मुक्ति मोहन (Mukti Mohan)
 - 2. संजुक्ता पाणिग्रही (Sanjukta Panigrahi)
 - 3. शोभा नायडू (Shobha Naidu)
 - 4. रुक्मिणी देवी अरुंडेल (Rukmini Devi Arundale)

Question ID : 264330160982
Option 1 ID : 264330631262
Option 2 ID : 264330631260
Option 3 ID : 264330631259
Option 4 ID : 264330631261
Status : Answered
Chosen Option : 4

Q.16 भारतीय संगीतकार, पंडित हरि प्रसाद चौरसिया निम्नलिखित में से कौन-सा संगीत वाद्ययंत्र बजाते थे?

- Ans
- 1. गिटार
 - 2. वीणा
 - 3. सारंगी
 - 4. बांसुरी

Question ID : 264330161766
Option 1 ID : 264330634393
Option 2 ID : 264330634391
Option 3 ID : 264330634392
Option 4 ID : 264330634394
Status : Answered
Chosen Option : 4

Q.17 निम्नलिखित में से सरकारी बजट में पूंजीगत व्यय का उदाहरण कौन-सा है?

- Ans
- 1. ऋण पर ब्याज भुगतान
 - 2. किसानों को प्रदान की गई सब्सिडी
 - 3. सरकारी भवनों का रख-रखाव
 - 4. सैन्य उपकरणों की खरीद

Question ID : 264330157276

Option 1 ID : 264330616469

Option 2 ID : 264330616467

Option 3 ID : 264330616470

Option 4 ID : 264330616468

Status : Answered

Chosen Option : 1

Q.18 किस भारतीय राज्य/केंद्र शासित प्रदेश में FIH पुरुष हॉकी विश्व कप 2023 का आयोजन किया गया था?

- Ans
- 1. महाराष्ट्र
 - 2. ओडिशा
 - 3. गुजरात
 - 4. नई दिल्ली

Question ID : 264330158218

Option 1 ID : 264330620232

Option 2 ID : 264330620231

Option 3 ID : 264330620234

Option 4 ID : 264330620233

Status : Answered

Chosen Option : 2

Q.19 जन्माष्टमी एक हिंदू त्योहार है जो हिंदू महीने _____ के श्याम पक्ष (dark fortnight) के आठवें (अष्टमी) दिन भगवान कृष्ण के जन्म का जश्न मनाता है।

- Ans
- 1. श्रावण
 - 2. भाद्रपद
 - 3. अश्विन
 - 4. आषाढ़

Question ID : 264330160829

Option 1 ID : 264330630648

Option 2 ID : 264330630647

Option 3 ID : 264330630649

Option 4 ID : 264330630650

Status : Answered

Chosen Option : 2

Q.20 भारत की जनगणना 2011 के अनुसार केरल में साक्षरता दर कितनी दर्ज की गई?

- Ans
- 1. 85.8%
 - 2. 87.9%
 - 3. 90.3%
 - 4. 94.0%

Question ID : 264330161556

Option 1 ID : 264330633554

Option 2 ID : 264330633553

Option 3 ID : 264330633552

Option 4 ID : 264330633551

Status : Answered

Chosen Option : 4

Q.21 During cell division, the formation of a new cell wall is followed by the accumulation of:

- Ans
- 1. peristome
 - 2. periplasm
 - 3. phragmoplast
 - 4. protoplast

Question ID : 264330156616
Option 1 ID : 264330613854
Option 2 ID : 264330613853
Option 3 ID : 264330613851
Option 4 ID : 264330613852
Status : Not Answered
Chosen Option : --

Q.22 2022 तक की स्थिति के अनुसार, आदि शंकराचार्य की 12 फीट की प्रतिमा, जिसका अनावरण भारत के प्रधानमंत्री द्वारा किया था, _____ में स्थित है।

- Ans
- 1. केदारनाथ
 - 2. पुणे
 - 3. वाराणसी
 - 4. अहमदाबाद

Question ID : 264330162698
Option 1 ID : 264330638111
Option 2 ID : 264330638113
Option 3 ID : 264330638112
Option 4 ID : 264330638114
Status : Answered
Chosen Option : 1

Q.23 अभिनव भारत सोसायटी के बारे में निम्नलिखित कथनों पर विचार कीजिए।

- 1) यह सोसायटी समाजवादियों का एक समुदाय था जो सशस्त्र क्रांति में विश्वास रखता था।
- 2) इस सोसायटी की स्थापना जया प्रकाश नारायण द्वारा की गई थी।
- 3) मित्र मेला, एक क्रांतिकारी गुप्त संस्था का नाम बदलकर 1904 में अभिनव भारत रखा गया।

नीचे दिए गए कोड का उपयोग करके सही कथन/नों का चुनाव कीजिए।

- Ans
- 1. 1, 2 और 3
 - 2. 1 और 3 दोनों
 - 3. 2 और 3 दोनों
 - 4. 1 और 2 दोनों

Question ID : 264330160884
Option 1 ID : 264330630870
Option 2 ID : 264330630868
Option 3 ID : 264330630869
Option 4 ID : 264330630867
Status : Answered
Chosen Option : 2

Q.24 'गॉड ऑफ स्मॉल थिंग्स (God of Small Things)' उपन्यास किस उपन्यासकार की रचना है?

- Ans
- 1. कमला दास
 - 2. आशापूर्णा देवी
 - 3. अरुंधति रॉय
 - 4. अमृता प्रीतम

Question ID : 264330160970
Option 1 ID : 264330631212
Option 2 ID : 264330631211
Option 3 ID : 264330631214
Option 4 ID : 264330631213
Status : Answered
Chosen Option : 3

Q.25 भारत में निम्नलिखित में से किस स्थान पर सबसे अधिक वर्षा होती है?

- Ans
- 1. प्रयागराज
 - 2. जैसलमेर
 - 3. मौसिनराम
 - 4. गुवाहाटी

Question ID : 264330161306
Option 1 ID : 264330632551
Option 2 ID : 264330632554
Option 3 ID : 264330632552
Option 4 ID : 264330632553
Status : Answered
Chosen Option : 3

Section : English Language and Comprehension

Q.1 Select the INCORRECTLY spelt word.

- Ans
- 1. Conscience
 - 2. Admission
 - 3. Omitted
 - 4. Retrospect

Question ID : 264330152690
Option 1 ID : 264330598366
Option 2 ID : 264330598365
Option 3 ID : 264330598363
Option 4 ID : 264330598364
Status : Answered
Chosen Option : 4

Q.2 Parts of the following sentence have been given as options. Select the option that contains an error.

The boy whose the sister is ill has left.

- Ans
- 1. has left
 - 2. whose the sister
 - 3. The boy
 - 4. is ill

Question ID : 264330152795
Option 1 ID : 264330598774
Option 2 ID : 264330598772
Option 3 ID : 264330598771
Option 4 ID : 264330598773
Status : Answered
Chosen Option : 2

Q.3 Select the most appropriate option to fill in the blank.

A strong _____ for mathematics and problem-solving can be very useful.

- Ans
- 1. strength
 - 2. perception
 - 3. aptitude
 - 4. functioning

Question ID : 264330151865
Option 1 ID : 264330595080
Option 2 ID : 264330595082
Option 3 ID : 264330595081
Option 4 ID : 264330595079
Status : Answered
Chosen Option : 3

Q.4 Select the most appropriate option that can substitute the underlined segment in the given sentence. If there is no need to substitute it, select 'No substitution required'.
If I will get good marks, my father will buy me a laptop.

- Ans
- 1. get
 - 2. No substitution required
 - 3. gets
 - 4. am getting

Question ID : 264330152728
Option 1 ID : 264330598512
Option 2 ID : 264330598514
Option 3 ID : 264330598511
Option 4 ID : 264330598513
Status : Answered
Chosen Option : 1

Q.5 Select the most appropriate option that can substitute the underlined segment in the given sentence.

If I hand her a flower and say, "Give it to mamma," she take it to her mother.

- Ans
- 1. was taking it
 - 2. had taken it
 - 3. had took it
 - 4. takes it

Question ID : 264330153488

Option 1 ID : 264330601468

Option 2 ID : 264330601467

Option 3 ID : 264330601469

Option 4 ID : 264330601470

Status : Answered

Chosen Option : 4

Q.6 Select the option that will improve the underlined part of the given sentence. In case no improvement is needed, select 'No improvement required'.

The new chairman of the company announced attracted bonus for the employees on the occasion of the new year.

- Ans
- 1. announcing attracted bonus for the employees
 - 2. announced attracting bonus for the employees
 - 3. announced an attractive bonus for the employees
 - 4. No improvement required

Question ID : 264330153612

Option 1 ID : 264330601932

Option 2 ID : 264330601931

Option 3 ID : 264330601933

Option 4 ID : 264330601934

Status : Answered

Chosen Option : 3

Q.7 Select the most appropriate synonym of the given word.
Mild

- Ans
- 1. Gentle
 - 2. Brittle
 - 3. Scathing
 - 4. Severe

Question ID : 264330151823

Option 1 ID : 264330594919

Option 2 ID : 264330594920

Option 3 ID : 264330594921

Option 4 ID : 264330594922

Status : Answered

Chosen Option : 1

Q.8 Parts of the following sentence have been underlined and given as options. Select the option that contains an error.

To much seriousness hardens the world, pinning it down with rules.

- Ans
- 1. to much
 - 2. hardens the
 - 3. world, pinning
 - 4. with rules

Question ID : 264330153204
Option 1 ID : 264330600376
Option 2 ID : 264330600375
Option 3 ID : 264330600377
Option 4 ID : 264330600378
Status : Answered
Chosen Option : 1

Q.9 Select the most appropriate idiom to fill in the blank.

Instead of answering the question directly, the politician kept _____.

- Ans
- 1. crying over spilt milk
 - 2. beating around the bush
 - 3. pointing at his laurels
 - 4. spilling the bean

Question ID : 264330151889
Option 1 ID : 264330595177
Option 2 ID : 264330595178
Option 3 ID : 264330595176
Option 4 ID : 264330595175
Status : Answered
Chosen Option : 2

Q.10 Select the INCORRECTLY spelt word.

- Ans
- 1. Priviledge
 - 2. Affiliate
 - 3. Parachute
 - 4. Recommendation

Question ID : 264330152689
Option 1 ID : 264330598359
Option 2 ID : 264330598360
Option 3 ID : 264330598362
Option 4 ID : 264330598361
Status : Answered
Chosen Option : 3

Q.11 Select the most appropriate ANTONYM of the given word.
Divergent

- Ans 1. Disrespectful
 2. Similar
 3. Obvious
 4. Addition

Question ID : 264330152721
Option 1 ID : 264330598483
Option 2 ID : 264330598484
Option 3 ID : 264330598486
Option 4 ID : 264330598485
Status : Answered
Chosen Option : 2

Q.12 Four words of the following sentence have been underlined and given as options.
Select the option that contains a spelling error.
Human activities that release longlived greenhouse gases into the atmosphere also lead to the enhancement of concentrations of shorterlived ozone and particulate matter in the atmosphere.

- Ans 1. leed
 2. release
 3. concentrations
 4. particulate

Question ID : 264330151930
Option 1 ID : 264330595336
Option 2 ID : 264330595335
Option 3 ID : 264330595337
Option 4 ID : 264330595338
Status : Answered
Chosen Option : 1

Q.13 Select the most appropriate option that can substitute the underlined segment in the given sentence.
Rishi asked Karan will he get a new football for him?

- Ans 1. if he would get a new football for him.
 2. if would he get a new football for him?
 3. if he will get a new football for him?
 4. would he get a new football for him?

Question ID : 264330153504
Option 1 ID : 264330601530
Option 2 ID : 264330601527
Option 3 ID : 264330601528
Option 4 ID : 264330601529
Status : Answered
Chosen Option : 1

Q.14 Select the most appropriate ANTONYM of the given word.
Often

- Ans 1. Usually
 2. Periodically
 3. Rarely
 4. Generally

Question ID : 264330152775
Option 1 ID : 264330598693
Option 2 ID : 264330598694
Option 3 ID : 264330598692
Option 4 ID : 264330598691
Status : Answered
Chosen Option : 3

Q.15 Select the most appropriate meaning of the underlined idiom in the following sentence.

He was quaking in his boots when he had to give a speech on the stage.

- Ans 1. To tremble in excitement
 2. To shake in happiness
 3. To tremble with fear
 4. To shake in excitement

Question ID : 264330153075
Option 1 ID : 264330599864
Option 2 ID : 264330599866
Option 3 ID : 264330599865
Option 4 ID : 264330599863
Status : Answered
Chosen Option : 3

Q.16 Select the option that can be used as a one-word substitute for the given phrase.
A place where water is collected and stored for future use.

- Ans 1. Reservoir
 2. Resort
 3. Aquarium
 4. Sanatorium

Question ID : 264330152670
Option 1 ID : 264330598284
Option 2 ID : 264330598286
Option 3 ID : 264330598285
Option 4 ID : 264330598283
Status : Answered
Chosen Option : 1

Q.17 Select the option that can be used as a one-word substitute for the underlined group of words.

They allowed us to powder by crushing the spices, pick over the raisins and lick the stirring spoons.

- Ans
- 1. gain
 - 2. greet
 - 3. grind
 - 4. guess

Question ID : 264330153491
Option 1 ID : 264330601482
Option 2 ID : 264330601479
Option 3 ID : 264330601481
Option 4 ID : 264330601480
Status : Answered
Chosen Option : 3

Q.18 Select the most appropriate idiom to fill in the blank.

My manager forced me to resign from my job as a chef since I underwent a spine surgery. I was depressed and had lost all hope. Later my father motivated me to open my own café and showed me ways to be independent. After all it is true that one should not _____.

- Ans
- 1. grease the palm
 - 2. cry over spilt milk
 - 3. blow one's own trumpet
 - 4. blow hot and cold

Question ID : 264330152879
Option 1 ID : 264330599108
Option 2 ID : 264330599107
Option 3 ID : 264330599110
Option 4 ID : 264330599109
Status : Answered
Chosen Option : 2

Q.19 The following sentence has been divided into four parts. Identify the part that contains an error.

(A) The institute / (B) have been / (C) divided into / (D) multiple departments

- Ans
- 1. C
 - 2. D
 - 3. A
 - 4. B

Question ID : 264330152623
Option 1 ID : 264330598098
Option 2 ID : 264330598097
Option 3 ID : 264330598096
Option 4 ID : 264330598095
Status : Answered
Chosen Option : 4

Q.20 Select the most appropriate meaning of the underlined idiom.
He managed to save his father's business by the sweat of his brow.

- Ans
- 1. any way possible
 - 2. hard work
 - 3. tricks and strategies
 - 4. incidentally

Question ID : 264330153641
Option 1 ID : 264330602036
Option 2 ID : 264330602037
Option 3 ID : 264330602035
Option 4 ID : 264330602038
Status : Answered
Chosen Option : 2

Comprehension:

In the following passage, some words have been deleted. Read the passage carefully and select the most appropriate option to fill in each blank.

Fruits and vegetables contain important vitamins, minerals and plant (1)_____. They also contain fibre. There are many (2)_____ of fruits and vegetables available and many ways to prepare, cook and serve them. A diet (3)_____ in fruit and vegetables can help protect you against cancer, diabetes and heart disease. Eat five kinds of vegetable and two kinds of fruit every day for good health. Most Indians do not eat (4)_____ fruit and vegetables. When buying and serving fruit and vegetables, aim for variety to get the most (5)_____ and appeal.

SubQuestion No : 21

Q.21 Select the most appropriate option to fill in blank number 1.

- Ans
- 1. organisms
 - 2. residue
 - 3. bacteria
 - 4. chemicals

Question ID : 264330153326
Option 1 ID : 264330600857
Option 2 ID : 264330600855
Option 3 ID : 264330600858
Option 4 ID : 264330600856
Status : Answered
Chosen Option : 1

Comprehension:

In the following passage, some words have been deleted. Read the passage carefully and select the most appropriate option to fill in each blank.

Fruits and vegetables contain important vitamins, minerals and plant (1)_____. They also contain fibre. There are many (2)_____ of fruits and vegetables available and many ways to prepare, cook and serve them. A diet (3)_____ in fruit and vegetables can help protect you against cancer, diabetes and heart disease. Eat five kinds of vegetable and two kinds of fruit every day for good health. Most Indians do not eat (4)_____ fruit and vegetables. When buying and serving fruit and vegetables, aim for variety to get the most (5)_____ and appeal.

SubQuestion No : 22

Q.22 Select the most appropriate option to fill in blank number 2.

- Ans
- 1. uses
 - 2. characters
 - 3. varieties
 - 4. traits

Question ID : 264330153327

Option 1 ID : 264330600859

Option 2 ID : 264330600861

Option 3 ID : 264330600862

Option 4 ID : 264330600860

Status : Answered

Chosen Option : 3

Comprehension:

In the following passage, some words have been deleted. Read the passage carefully and select the most appropriate option to fill in each blank.

Fruits and vegetables contain important vitamins, minerals and plant (1)_____. They also contain fibre. There are many (2)_____ of fruits and vegetables available and many ways to prepare, cook and serve them. A diet (3)_____ in fruit and vegetables can help protect you against cancer, diabetes and heart disease. Eat five kinds of vegetable and two kinds of fruit every day for good health. Most Indians do not eat (4)_____ fruit and vegetables. When buying and serving fruit and vegetables, aim for variety to get the most (5)_____ and appeal.

SubQuestion No : 23

Q.23 Select the most appropriate option to fill in blank number 3.

- Ans
- 1. content
 - 2. rich
 - 3. varied
 - 4. immersed

Question ID : 264330153328

Option 1 ID : 264330600864

Option 2 ID : 264330600865

Option 3 ID : 264330600866

Option 4 ID : 264330600863

Status : Answered

Chosen Option : 2

Comprehension:

In the following passage, some words have been deleted. Read the passage carefully and select the most appropriate option to fill in each blank.

Fruits and vegetables contain important vitamins, minerals and plant (1)_____. They also contain fibre. There are many (2)_____ of fruits and vegetables available and many ways to prepare, cook and serve them. A diet (3)_____ in fruit and vegetables can help protect you against cancer, diabetes and heart disease. Eat five kinds of vegetable and two kinds of fruit every day for good health. Most Indians do not eat (4)_____ fruit and vegetables. When buying and serving fruit and vegetables, aim for variety to get the most (5)_____ and appeal.

SubQuestion No : 24

Q.24 Select the most appropriate option to fill in blank number 4.

- Ans
- 1. plenty
 - 2. many
 - 3. enough
 - 4. some

Question ID : 264330153329

Option 1 ID : 264330600870

Option 2 ID : 264330600867

Option 3 ID : 264330600868

Option 4 ID : 264330600869

Status : Answered

Chosen Option : 3

Comprehension:

In the following passage, some words have been deleted. Read the passage carefully and select the most appropriate option to fill in each blank.

Fruits and vegetables contain important vitamins, minerals and plant (1)_____. They also contain fibre. There are many (2)_____ of fruits and vegetables available and many ways to prepare, cook and serve them. A diet (3)_____ in fruit and vegetables can help protect you against cancer, diabetes and heart disease. Eat five kinds of vegetable and two kinds of fruit every day for good health. Most Indians do not eat (4)_____ fruit and vegetables. When buying and serving fruit and vegetables, aim for variety to get the most (5)_____ and appeal.

SubQuestion No : 25

Q.25 Select the most appropriate option to fill in blank number 5.

- Ans
- 1. assortment
 - 2. fun
 - 3. advancement
 - 4. nutrients

Question ID : 264330153330

Option 1 ID : 264330600872

Option 2 ID : 264330600873

Option 3 ID : 264330600871

Option 4 ID : 264330600874

Status : Answered

Chosen Option : 4

Multi Tasking Non Technical Staff and Havaladar CBIC and CBN Examination 2023

Roll Number	KD Job Updates
Candidate Name	KD Job Updates
Venue Name	iON Digital Zone iDZ Naino Ka Bas
Exam Date	13/09/2023
Exam Time	4:00 PM - 6:00 PM
Subject	MTS Non Tech Havaladar CBIC and CBN Examination 2023

Section : Numerical and Mathematical Ability

Q.1 $[(2^4(20 \times 5 + 10) \div 11) - (2^3 \times 15 \div 20) - (9 \times 16)]$ का मान क्या है?

Ans 1. 10

2. 8

3. 12

4. 16

Question ID : 264330156459

Option 1 ID : 264330613225

Option 2 ID : 264330613224

Option 3 ID : 264330613223

Option 4 ID : 264330613226

Status : Answered

Chosen Option : 1

Q.2 A किसी काम को 10 दिनों में पूरा कर सकता है। वह 4 दिन काम करता है और फिर काम करना बंद कर देता है। B शेष काम को 9 दिनों में पूरा करता है। A और B साथ मिलकर उस काम को कितने दिनों में पूरा कर सकते हैं?

Ans 1. 6 दिन

2. 5 दिन

3. 7 दिन

4. 4 दिन

Question ID : 264330156276

Option 1 ID : 264330612505

Option 2 ID : 264330612504

Option 3 ID : 264330612506

Option 4 ID : 264330612503

Status : Answered

Chosen Option : 1

Q.3 एक कार 84 km/h की चाल से 60 km की दूरी तय करती है। यदि पूरी यात्रा की औसत चाल 72 km/h है, तो यात्रा के अगले 60 km के लिए कार की चाल कितनी होनी चाहिए ?

- Ans
- 1. 68 km/h
 - 2. 63 km/h
 - 3. 75 km/h
 - 4. 78 km/h

Question ID : 264330157894
Option 1 ID : 264330618936
Option 2 ID : 264330618937
Option 3 ID : 264330618938
Option 4 ID : 264330618935
Status : Answered
Chosen Option : 2

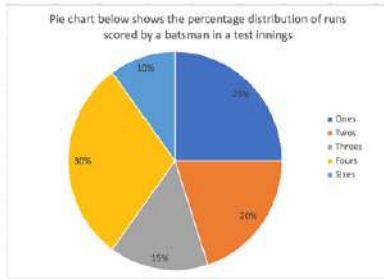
Q.4 A, B और C ने एक व्यवसाय शुरू किया। A की पूंजी C की पूंजी का 7 गुना है और B की पूंजी A की पूंजी का 2 गुना है। यदि लाभ ₹7,920 है, तो C का हिस्सा (₹ में) ज्ञात कीजिए।

- Ans
- 1. 360
 - 2. 350
 - 3. 365
 - 4. 355

Question ID : 264330156225
Option 1 ID : 264330612301
Option 2 ID : 264330612299
Option 3 ID : 264330612302
Option 4 ID : 264330612300
Status : Answered
Chosen Option : 1

KD Job Updates

Q.5 निम्नलिखित वृत्त आलेख में एक टेस्ट की पारियों में एक बल्लेबाज द्वारा बनाए गए रनों के प्रतिशत वितरण को दर्शाया गया है।



संदर्भ: Pie chart below shows the percentage distribution of runs scored by a batsman in a test innings - वृत्त आलेख एक टेस्ट की पारियों में एक बल्लेबाज द्वारा बनाए गए रनों के प्रतिशत वितरण को दर्शाता है, Ones - एक रन, Twos - दो रन, Threes - तीन रन, Fours - चौके, Sixes - छक्के

यदि बल्लेबाज ने कुल 360 रन बनाए हैं, तो उसने कितने चौके और छक्के मारे?

- Ans**
- 1. 30 और 3
 - 2. 25 और 8
 - 3. 31 और 2
 - 4. 27 और 6

Question ID : 264330153784

Option 1 ID : 264330602600

Option 2 ID : 264330602599

Option 3 ID : 264330602602

Option 4 ID : 264330602601

Status : Answered

Chosen Option : 4

Q.6 एक व्यक्ति 5 वर्ष के लिए 5% वार्षिक साधारण ब्याज दर पर ₹5,000 का निवेश करता है। 5 वर्ष के अंत में, वह पूरी धनराशि को उसी ब्याज दर पर अगले 3 वर्षों के लिए फिर से निवेश करता है। 8 वर्ष के अंत में व्यक्ति द्वारा अर्जित कुल ब्याज कितना होगा?

- Ans**
- 1. ₹2,323.50
 - 2. ₹2,156.50
 - 3. ₹2,187.50
 - 4. ₹2,256.50

Question ID : 264330156270

Option 1 ID : 264330612482

Option 2 ID : 264330612480

Option 3 ID : 264330612479

Option 4 ID : 264330612481

Status : Answered

Chosen Option : 3

Q.7 32 व्यक्तियों का औसत व्यय ₹6,000 है और अन्य 40 व्यक्तियों का औसत व्यय ₹3,300 है। पूरे समूह का औसत व्यय कितना है?

- Ans
- ✗ 1. ₹4,800
 - ✗ 2. ₹4,162
 - ✓ 3. ₹4,500
 - ✗ 4. ₹4,650

Question ID : 264330153869
Option 1 ID : 264330602942
Option 2 ID : 264330602941
Option 3 ID : 264330602939
Option 4 ID : 264330602940
Status : Answered
Chosen Option : 3

Q.8 एक माइक्रोवेव और एक डिश वॉशिंग मशीन प्रत्येक को ₹27,000 के मूल्य पर बेचा गया। यदि माइक्रोवेव को 25% के लाभ पर और डिश वॉशिंग मशीन को 25% की हानि पर बेचा गया, तो पूरे लेन-देन पर कुल लाभ% या हानि% क्या है?

- Ans
- ✗ 1. 5.50% हानि
 - ✗ 2. 7.75% लाभ
 - ✗ 3. 8.25% लाभ
 - ✓ 4. 6.25% हानि

Question ID : 264330156285
Option 1 ID : 264330612542
Option 2 ID : 264330612540
Option 3 ID : 264330612541
Option 4 ID : 264330612539
Status : Answered
Chosen Option : 4

Q.9 निम्न तालिका में वर्ष 1984-85 से 1989-90 के लिए राष्ट्रीय आय और देश की जनसंख्या को दर्शाया गया है।

वर्ष	राष्ट्रीय आय (करोड़ में)	जनसंख्या (करोड़ में)
1984-85	₹229.225	74.0
1985-86	₹261.174	75.0
1986-87	₹291.556	77.0
1987-88	₹329.200	78.5
1988-89	₹389.500	80.0
1989-90	₹434.500	81.5

1987-88, 1988-89 और 1989-90 के वर्षों के लिए औसत राष्ट्रीय आय (करोड़ में) कितनी थी?

- Ans
- ✓ 1. ₹384.4
 - ✗ 2. ₹398.2
 - ✗ 3. ₹392.4
 - ✗ 4. ₹396.2

Question ID : 264330156281
Option 1 ID : 264330612523
Option 2 ID : 264330612526
Option 3 ID : 264330612524
Option 4 ID : 264330612525
Status : Answered
Chosen Option : 1

Q.10 11 cm लंबाई, 8 cm चौड़ाई और 6 cm ऊंचाई वाले एक ठोस धातु के घनाभ को पिघलाकर 14 cm ऊंचाई वाला एक शंकु बनाया जाता है। इस प्रकार बने शंकु की त्रिज्या क्या है?

- Ans**
- 1. 8 cm
 - 2. 9 cm
 - 3. 6 cm
 - 4. 7 cm

Question ID : 264330154140
Option 1 ID : 264330604024
Option 2 ID : 264330604026
Option 3 ID : 264330604023
Option 4 ID : 264330604025
Status : Answered
Chosen Option : 3

Q.11 एक बोटल के मूल्य में पहले 15% की वृद्धि की जाती है और बाद में बिक्री में कमी के कारण इसके मूल्य में 24% की कमी की जाती है। बोटल के अंतिम मूल्य में निवल प्रतिशत परिवर्तन ज्ञात कीजिए।

- Ans**
- 1. 12.6% की वृद्धि
 - 2. 13.9% की वृद्धि
 - 3. 12.6% की कमी
 - 4. 13.9% की कमी

Question ID : 264330155734
Option 1 ID : 264330610342
Option 2 ID : 264330610340
Option 3 ID : 264330610341
Option 4 ID : 264330610339
Status : Answered
Chosen Option : 3

Q.12 यदि ब्याज अर्धवार्षिक रूप से संयोजित होता है, तो ₹500 पर 2 वर्षों में 20% वार्षिक की दर से चक्रवृद्धि ब्याज (₹ में) ज्ञात कीजिए।

- Ans**
- 1. 232.05
 - 2. 225.08
 - 3. 264.05
 - 4. 132.05

Question ID : 264330155748
Option 1 ID : 264330610397
Option 2 ID : 264330610396
Option 3 ID : 264330610398
Option 4 ID : 264330610395
Status : Answered
Chosen Option : 1

Q.13 तीन अंकों की वह सबसे बड़ी संख्या कौन-सी है जिसे 4, 8 और 9 से भाग देने पर कोई शेषफल नहीं बचेगा?

- Ans
- 1. 924
 - 2. 932
 - 3. 963
 - 4. 936

Question ID : 264330155685

Option 1 ID : 264330610143

Option 2 ID : 264330610144

Option 3 ID : 264330610146

Option 4 ID : 264330610145

Status : Answered

Chosen Option : 4

Q.14 एक घन का सबसे लंबा विकर्ण $6\sqrt{3}$ cm है। घन का कुल पृष्ठीय क्षेत्रफल ज्ञात कीजिए।

- Ans
- 1. 216 cm^2
 - 2. 36 cm^2
 - 3. 648 cm^2
 - 4. 324 cm^2

Question ID : 264330153897

Option 1 ID : 264330603051

Option 2 ID : 264330603052

Option 3 ID : 264330603053

Option 4 ID : 264330603054

Status : Answered

Chosen Option : 2

Q.15 एक दुकानदार ने एक ओवन ₹25,000 में खरीदा और इसे ₹29,500 में बेच दिया। उसने अतिरिक्त खर्च के रूप में ₹1,500 खर्च किए। उसका हानि या लाभ प्रतिशत क्या है (निकटतम पूर्णांक तक सन्निकटित)?

- Ans
- 1. 11% का लाभ
 - 2. 13% का लाभ
 - 3. 13% की हानि
 - 4. 11% की हानि

Question ID : 264330163011

Option 1 ID : 264330639362

Option 2 ID : 264330639360

Option 3 ID : 264330639359

Option 4 ID : 264330639361

Status : Answered

Chosen Option : 2

Q.16 एक मोटर नाव किसी चाल से यात्रा करते हुए धारा के प्रतिकूल 28 km और धारा के अनुकूल 40 km की दूरी 11 घंटे में तय करती है। उसी चाल से वह धारा के अनुकूल 30 km और धारा के प्रतिकूल 16 km की यात्रा 7 घंटे में तय करती है। धारा की चाल क्या है?

- Ans**
- 1. 1 km/h
 - 2. 4 km/h
 - 3. 3 km/h
 - 4. 2 km/h

Question ID : 264330154094
Option 1 ID : 264330603840
Option 2 ID : 264330603842
Option 3 ID : 264330603841
Option 4 ID : 264330603839
Status : Answered
Chosen Option : 3

Q.17 एक बाइक एक पुल को 75 km/h की चाल से पार करती है। यदि बाइक को पुल पार करने में 20 मिनट का समय लगता है, तो पुल की लंबाई (km में) कितनी है?

- Ans**
- 1. 30
 - 2. 25
 - 3. 45
 - 4. 20

Question ID : 264330155751
Option 1 ID : 264330610409
Option 2 ID : 264330610408
Option 3 ID : 264330610410
Option 4 ID : 264330610407
Status : Answered
Chosen Option : 2

Q.18 1 से 73 तक की प्राकृत संख्याओं का औसत क्या है?

- Ans**
- 1. 30
 - 2. 34
 - 3. 28
 - 4. 37

Question ID : 264330155726
Option 1 ID : 264330610308
Option 2 ID : 264330610309
Option 3 ID : 264330610307
Option 4 ID : 264330610310
Status : Answered
Chosen Option : 4

Q.19 P एक काम का $\frac{1}{5}$ भाग 12 दिनों में पूरा कर सकता है और Q उसी काम का $\frac{1}{6}$ भाग 8 दिनों में पूरा कर सकता है। P और Q दोनों साथ मिलकर उस काम को कितने दिनों में पूरा कर सकते हैं?

- Ans
- 1. $24\frac{2}{3}$
 - 2. $25\frac{4}{5}$
 - 3. $22\frac{4}{5}$
 - 4. $26\frac{2}{3}$

Question ID : 264330155975

Option 1 ID : 264330611299

Option 2 ID : 264330611302

Option 3 ID : 264330611301

Option 4 ID : 264330611300

Status : Answered

Chosen Option : 4

Q.20 संख्या 3, 9, 8 का चतुर्थ समानुपाती ज्ञात कीजिए।

- Ans
- 1. 24
 - 2. 20
 - 3. 10
 - 4. 12

Question ID : 264330153878

Option 1 ID : 264330602977

Option 2 ID : 264330602975

Option 3 ID : 264330602976

Option 4 ID : 264330602978

Status : Answered

Chosen Option : 1

Section : Reasoning Ability and Problem Solving

Q.1 यदि '+' और '-' को आपस में बदल दिया जाए और 'x' और '÷' को आपस में बदल दिया जाए तो निम्नलिखित समीकरण में '?' के स्थान पर क्या आएगा?
 $12 - 6 \times 5 - 7 + 2 = ?$

- Ans
- 1. -14
 - 2. -46
 - 3. -31
 - 4. -13

Question ID : 264330154657

Option 1 ID : 264330606091

Option 2 ID : 264330606092

Option 3 ID : 264330606094

Option 4 ID : 264330606093

Status : Answered

Chosen Option : 3

Q.2 अंग्रेजी वर्णमाला क्रम के आधार पर दी गई श्रृंखला में प्रश्न चिह्न (?) के स्थान पर क्या आना चाहिए?

WAP, VEO, UIN, TMM, ?

Ans 1. RPM

2. QPN

3. QSN

4. SQL

Question ID : 264330155793

Option 1 ID : 264330610575

Option 2 ID : 264330610578

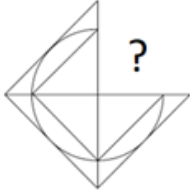
Option 3 ID : 264330610577

Option 4 ID : 264330610576

Status : Answered

Chosen Option : 4

Q.3 पैटर्न को पूरा करने वाली आकृति को पहचानिए (घूर्णन की अनुमति नहीं है)।



Ans

1.



2.



3.



4.



Question ID : 264330154515

Option 1 ID : 264330605526

Option 2 ID : 264330605525

Option 3 ID : 264330605524

Option 4 ID : 264330605523

Status : Answered

Chosen Option : 3

Q.4 नीचे दिए गए कथनों और निष्कर्षों को ध्यानपूर्वक पढ़िए। आपको मानना है कि दिए गए कथन सत्य हैं चाहे वे समान्यतः ज्ञात तथ्यों से अलग प्रतीत होते हों। आपको निश्चय करना है कि कौन-सा/कौन-से निष्कर्ष तार्किक रूप से दिए गए कथनों के अनुसार है/हैं।

कथन: कुछ लेपटॉप, पेंसिलें हैं। कुछ पेंसिलें, रूलर हैं। सभी रूलर, सफ़ेद हैं।

निष्कर्ष I: कुछ पेंसिलें, लेपटॉप हैं।

निष्कर्ष II: सभी रूलर, पेंसिलें हैं।

- Ans**
- 1. दोनों निष्कर्ष (I) और (II) कथनों के अनुसार हैं।
 - 2. न तो निष्कर्ष (I) और न ही (II) कथनों के अनुसार है।
 - 3. केवल निष्कर्ष (II) कथनों के अनुसार है।
 - 4. केवल निष्कर्ष (I) कथनों के अनुसार है।

Question ID : 264330155892

Option 1 ID : 264330610974

Option 2 ID : 264330610973

Option 3 ID : 264330610972

Option 4 ID : 264330610971

Status : Answered

Chosen Option : 4

Q.5 दी गई श्रृंखला में प्रश्न चिह्न '?' के स्थान पर क्या आना चाहिए?

22 24 28 30 34 ?

- Ans**
- 1. 38
 - 2. 42
 - 3. 40
 - 4. 36

Question ID : 264330151720

Option 1 ID : 264330594510

Option 2 ID : 264330594508

Option 3 ID : 264330594507

Option 4 ID : 264330594509

Status : Answered

Chosen Option : 4

Q.6 एक निश्चित तर्क के अनुसार 4, 14 से संबंधित है। समान तर्क के अनुसार, 7, 26 से संबंधित है। समान तर्क का अनुसरण करते हुए 9 निम्नलिखित में से किससे संबंधित है?

- Ans**
- 1. 35
 - 2. 36
 - 3. 34
 - 4. 37

Question ID : 264330151604

Option 1 ID : 264330594044

Option 2 ID : 264330594045

Option 3 ID : 264330594043

Option 4 ID : 264330594046

Status : Answered

Chosen Option : 3

Q.7 दी गई श्रृंखला में प्रश्न चिन्ह '?' के स्थान पर क्या आना चाहिए?

14 43 130 391 1174 ?

- Ans
- 1. 3416
 - 2. 2476
 - 3. 3523
 - 4. 3519

Question ID : 264330151479
Option 1 ID : 264330593543
Option 2 ID : 264330593544
Option 3 ID : 264330593546
Option 4 ID : 264330593545
Status : Answered
Chosen Option : 3

Q.8 यदि 15 जुलाई 2010 को गुरुवार है, तो 5 जून 2022 को सप्ताह का कौन-सा दिन होगा?

- Ans
- 1. सोमवार
 - 2. बुधवार
 - 3. रविवार
 - 4. मंगलवार

Question ID : 264330154354
Option 1 ID : 264330604880
Option 2 ID : 264330604882
Option 3 ID : 264330604879
Option 4 ID : 264330604881
Status : Answered
Chosen Option : 3

KD Job Updates

Q.9 यदि निम्नलिखित आकृति श्रृंखला को जारी रखना हो तो कौन-सी आकृति प्रश्न चिन्ह (?) के स्थान पर आनी चाहिए?

T	□	O	Y	♥	↑	T	N	
O	N	L	Y	♥	□	A	↑	T 2 O N A ↑ △ Y
♥	↑	T	N	A	Y	♥	2	?

Ans

✗ 1.

△	Y
T	K
♥	2
A	N

✗ 2.

♥	2
△	A
↑	N
T	Y

✓ 3.

A	Y
♥	K
T	2
△	N

✗ 4.

A	Y
♥	△
↑	2
T	N

KD Job Updates

Question ID : 264330154748
 Option 1 ID : 264330606457
 Option 2 ID : 264330606456
 Option 3 ID : 264330606455
 Option 4 ID : 264330606458
 Status : Answered
 Chosen Option : 3

Q.10 नीचे दिए गए कथनों और निष्कर्षों को ध्यानपूर्वक पढ़िए। आपको मानना है कि दिए गए कथन सत्य हैं चाहे वे समान्यतः ज्ञात तथ्यों से अलग प्रतीत होते हों। आपको निश्चय करना है कि कौन-सा/कौन-से निष्कर्ष तार्किक रूप से दिए गए कथनों के अनुसार है/हैं।

कथन: सभी कोए, केले हैं। कुछ केले, गुलाबी हैं। सभी गुलाबी, सफेद हैं।

निष्कर्ष I: कुछ कौवे, केले हैं।

निष्कर्ष II: सभी केले, गुलाबी हैं।

Ans

- ✓ 1. केवल निष्कर्ष (I) कथनों के अनुसार है।
- ✗ 2. न तो निष्कर्ष (I) और न ही (II) कथनों के अनुसार है।
- ✗ 3. केवल निष्कर्ष (II) कथनों के अनुसार है।
- ✗ 4. दोनों निष्कर्ष (I) और (II) कथनों के अनुसार हैं।

Question ID : 264330155916

Option 1 ID : 264330611067

Option 2 ID : 264330611069

Option 3 ID : 264330611068

Option 4 ID : 264330611070

Status : Answered

Chosen Option : 1

Q.11 दी गई श्रृंखला में प्रश्न चिन्ह '?' के स्थान पर क्या आना चाहिए?

11 91 811 ? 65611 590491 5314411

Ans

- ✗ 1. 7921
- ✗ 2. 7129
- ✗ 3. 7912
- ✓ 4. 7291

Question ID : 264330151442

Option 1 ID : 264330593395

Option 2 ID : 264330593397

Option 3 ID : 264330593398

Option 4 ID : 264330593396

Status : Answered

Chosen Option : 4

Q.12 एक निश्चित तर्क के अनुसार 2, 7 से संबंधित है। समान तर्क के अनुसार, 4, 63 से संबंधित है। समान तर्क का अनुसरण करते हुए 9 निम्नलिखित में से किससे संबंधित है?

Ans

- ✗ 1. 731
- ✓ 2. 728
- ✗ 3. 729
- ✗ 4. 730

Question ID : 264330151586

Option 1 ID : 264330593974

Option 2 ID : 264330593971

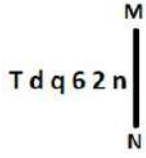
Option 3 ID : 264330593972

Option 4 ID : 264330593973

Status : Answered

Chosen Option : 2

Q.13 दी गई आकृति के उस सही दर्पण प्रतिबिंब को चुनिए, जो नीचे दर्शाए गए अनुसार दर्पण को MN पर रखने पर बनेगा।



- Ans
- ✗ 1. n 2 ̂ p b L
 - ✗ 2. u 5 6 p b T
 - ✓ 3. n 5 ̂ p b T
 - ✗ 4. n 5 ̂ d q T

Question ID : 264330151504

Option 1 ID : 264330593645

Option 2 ID : 264330593644

Option 3 ID : 264330593646

Option 4 ID : 264330593643

Status : Answered

Chosen Option : 3

Q.14 अक्षरों के उस संयोजन को चुनिए जिसे दी गई श्रृंखला के रिक्त स्थानों में क्रमिक रूप से रखने पर श्रृंखला पूरी हो जाएगी।

DE _ D _ D _ E _ _ ED

- Ans
- ✗ 1. DEDEE
 - ✗ 2. EDDED
 - ✓ 3. DEDDD
 - ✗ 4. DDEDE

Question ID : 264330151652

Option 1 ID : 264330594236

Option 2 ID : 264330594237

Option 3 ID : 264330594238

Option 4 ID : 264330594235

Status : Answered

Chosen Option : 3

Q.15 उस शब्द-युग्म का चयन कीजिए जो नीचे दिए गए शब्दों के युग्म में व्यक्त किए गए समान संबंध का सबसे अच्छा निरूपण करता है।

(शब्दों को अर्थपूर्ण हिंदी शब्दों के रूप में माना जाना चाहिए और उन्हें शब्द में अक्षरों की संख्या/व्यंजन/स्वरों की संख्या के आधार पर एक दूसरे से संबंधित नहीं किया जाना चाहिए।)

घोड़ा : घोड़ी

- Ans
- ✗ 1. बत्तख : हंस
 - ✓ 2. लोमड़ी : मादा लोमड़ी
 - ✗ 3. गधा : टट्टू
 - ✗ 4. कुत्ता : पिल्ला

Question ID : 264330154632

Option 1 ID : 264330605992

Option 2 ID : 264330605991

Option 3 ID : 264330605994

Option 4 ID : 264330605993

Status : Answered

Chosen Option : 2

Q.16 अंग्रेजी वर्णमाला क्रम के आधार पर दी गई श्रृंखला में प्रश्न चिह्न (?) के स्थान पर क्या आना चाहिए?

PVC, SUF, VTI, YSL, ?

- Ans
- 1. DRP
 - 2. CQR
 - 3. CSP
 - 4. BRO

Question ID : 264330155791

Option 1 ID : 264330610568

Option 2 ID : 264330610570

Option 3 ID : 264330610567

Option 4 ID : 264330610569

Status : Answered

Chosen Option : 4

Q.17 एक निश्चित कूट भाषा में, 'TUNE' को '4368' लिखा जाता है और 'UNIT' को '8423' लिखा जाता है। उसी कूट भाषा में 'I' को कैसे लिखा जाएगा?

- Ans
- 1. 2
 - 2. 4
 - 3. 8
 - 4. 3

Question ID : 264330151701

Option 1 ID : 264330594432

Option 2 ID : 264330594434

Option 3 ID : 264330594433

Option 4 ID : 264330594431

Status : Answered

Chosen Option : 1

Q.18 यदि D का अर्थ -, C का अर्थ *, F का अर्थ +, B का अर्थ = है, तो निम्नलिखित समीकरण में प्रश्न चिह्न (?) के स्थान पर क्या आएगा?
28 B 72 F 6 D 8 C 4 = ?

- Ans
- 1. 8
 - 2. 14
 - 3. 26
 - 4. 18

Question ID : 264330154692

Option 1 ID : 264330606231

Option 2 ID : 264330606232

Option 3 ID : 264330606234

Option 4 ID : 264330606233

Status : Answered

Chosen Option : 1

Q.19 एक निश्चित कूट भाषा में, 'people talk about' को 'ki li ni' लिखा जाता है और 'let them talk' को 'si ki hi' लिखा जाता है। उसी कूट भाषा में 'talk' को कैसे लिखा जाएगा?

- Ans
- 1. li
 - 2. ni
 - 3. ki
 - 4. hi

Question ID : 264330155635

Option 1 ID : 264330609944

Option 2 ID : 264330609945

Option 3 ID : 264330609943

Option 4 ID : 264330609946

Status : Answered

Chosen Option : 3

Q.20 सात व्यक्ति, W, D, J, S, H, G और Y एक सीधी पंक्ति में दक्षिण की ओर मुख करके बैठे हैं। G, S के बाईं ओर से दूसरे स्थान पर बैठा है। D और H का निकटतम पड़ोसी G है। Y, D के दाईं ओर से तीसरे स्थान पर बैठा है। W के दाईं ओर केवल दो व्यक्ति बैठे हैं।

पंक्ति के अंतिम दाईं छोर पर कौन बैठा है?

- Ans
- 1. J
 - 2. G
 - 3. W
 - 4. Y

Question ID : 264330161692

Option 1 ID : 264330634096

Option 2 ID : 264330634097

Option 3 ID : 264330634098

Option 4 ID : 264330634095

Status : Answered

Chosen Option : 1

Section : General Awareness

Q.1 प्रधानमंत्री रोजगार प्रोत्साहन योजना (PMRPY) की शुरुआत किस वर्ष की गई थी?

- Ans
- 1. 2018
 - 2. 2016
 - 3. 2022
 - 4. 2015

Question ID : 264330161505

Option 1 ID : 264330633347

Option 2 ID : 264330633350

Option 3 ID : 264330633348

Option 4 ID : 264330633349

Status : Not Answered

Chosen Option : --

Q.2 भारत ने ODI क्रिकेट विश्व कप 2011 का फाइनल किस देश के विरुद्ध खेला था?

- Ans 1. श्रीलंका
 2. ऑस्ट्रेलिया
 3. इंग्लैंड
 4. पाकिस्तान

Question ID : 264330158229
Option 1 ID : 264330620278
Option 2 ID : 264330620277
Option 3 ID : 264330620276
Option 4 ID : 264330620275
Status : Not Answered
Chosen Option : --

Q.3 'मालगुडी डेज़' के लेखक कौन है?

- Ans 1. आर. के. नारायण
 2. रवीन्द्रनाथ टैगोर
 3. चेतन भगत
 4. विक्रम सेठ

Question ID : 264330155497
Option 1 ID : 264330609392
Option 2 ID : 264330609394
Option 3 ID : 264330609391
Option 4 ID : 264330609393
Status : Answered
Chosen Option : 1

Q.4 निम्नलिखित में से कौन-सा ब्रिटिश भारत में महात्मा गांधी के नेतृत्व में पहला सत्याग्रह आंदोलन था?

- Ans 1. बारडोली सत्याग्रह
 2. चम्पारण सत्याग्रह
 3. रॉलेट सत्याग्रह
 4. खेड़ा सत्याग्रह

Question ID : 264330161750
Option 1 ID : 264330634329
Option 2 ID : 264330634330
Option 3 ID : 264330634327
Option 4 ID : 264330634328
Status : Answered
Chosen Option : 1

Q.5 लाल किला कहाँ स्थित है?

- Ans
- 1. इंदौर
 - 2. अहमदाबाद
 - 3. दिल्ली
 - 4. लखनऊ

Question ID : 264330160769
Option 1 ID : 264330630407
Option 2 ID : 264330630409
Option 3 ID : 264330630410
Option 4 ID : 264330630408
Status : Answered
Chosen Option : 3

Q.6 अमृता प्रीतम के निम्नलिखित में से किस उपन्यास पर आधारित फिल्म ने राष्ट्रीय फिल्म पुरस्कार जीता?

- Ans
- 1. रसीदी टिकट
 - 2. पिंजर
 - 3. नागमणि
 - 4. विलेज नंबर 36

Question ID : 264330161764
Option 1 ID : 264330634386
Option 2 ID : 264330634383
Option 3 ID : 264330634384
Option 4 ID : 264330634385
Status : Not Answered
Chosen Option : --

Q.7 किस भारतीय संगीतकार को 2001 में भारत रत्न से सम्मानित किया गया था?

- Ans
- 1. बिस्मिल्लाह खान
 - 2. हरिप्रसाद चौरसिया
 - 3. शिवकुमार शर्मा
 - 4. भीमसेन जोशी

Question ID : 264330155460
Option 1 ID : 264330609244
Option 2 ID : 264330609246
Option 3 ID : 264330609243
Option 4 ID : 264330609245
Status : Not Answered
Chosen Option : --

Q.8 निम्नलिखित में से कौन-सा राज्य 2023 जनजातीय खेल महोत्सव में पुरुष और महिला दोनों श्रेणियों में समग्र चैंपियन बना?

- Ans
- 1. झारखंड
 - 2. छत्तीसगढ़
 - 3. ओडिशा
 - 4. कर्नाटक

Question ID : 264330161131
Option 1 ID : 264330631856
Option 2 ID : 264330631857
Option 3 ID : 264330631858
Option 4 ID : 264330631855
Status : Not Answered
Chosen Option : --

Q.9 डॉ. तीजन बाई, जिन्हें पद्म विभूषण (2019) से सम्मानित किया गया था, _____ राज्य की एक प्रसिद्ध भारतीय लोक गायिका और कलाकार हैं।

- Ans
- 1. हिमाचल प्रदेश
 - 2. असम
 - 3. राजस्थान
 - 4. छत्तीसगढ़

Question ID : 264330155525
Option 1 ID : 264330609503
Option 2 ID : 264330609504
Option 3 ID : 264330609505
Option 4 ID : 264330609506
Status : Answered
Chosen Option : 4

Q.10 गोवा सरकार ने नवंबर 2022 में निम्नलिखित में से किसके लिए एक नई योजना की शुरुआत की?

- Ans
- 1. गोवा दर्शन
 - 2. इतिहास दर्शन
 - 3. भारत दर्शन
 - 4. देव दर्शन

Question ID : 264330158326
Option 1 ID : 264330620665
Option 2 ID : 264330620666
Option 3 ID : 264330620663
Option 4 ID : 264330620664
Status : Answered
Chosen Option : 1

Q.11 निम्नलिखित में से कौन-सी भारतीय राजनीतिक दलीय प्रणाली की विशेषता नहीं है?

- Ans 1. एकदलीय प्रणाली
 2. बहुदलीय प्रणाली
 3. प्रभावी विपक्ष का अभाव
 4. गुटबाजी और दलबदल

Question ID : 264330159913
Option 1 ID : 264330627002
Option 2 ID : 264330626999
Option 3 ID : 264330627001
Option 4 ID : 264330627000
Status : Answered
Chosen Option : 1

Q.12 रोहिणी भाटे, पंडित मुन्नलाल शुक्ला, कुमुदिनी लाखिया और उमा शर्मा निम्नलिखित में से किस शास्त्रीय नृत्य शैली के प्रसिद्ध व्याख्याता हैं?

- Ans 1. भरतनाट्यम
 2. कुचिपुड़ी
 3. कथकली
 4. कथक

Question ID : 264330160788
Option 1 ID : 264330630483
Option 2 ID : 264330630484
Option 3 ID : 264330630485
Option 4 ID : 264330630486
Status : Not Answered
Chosen Option : --

Q.13 _____ नृत्य की मूल शब्दावली में युद्ध तकनीकों का नाट्य स्वरूप, पक्षियों और जानवरों की शैलीगत चालें और गांव की गृहिणियों के कामकाज पर आधारित गतिविधियां शामिल हैं और ज्यादातर पूर्वी भारत में पुरुष नर्तकों द्वारा प्रस्तुत की जाती हैं।

- Ans 1. मणिपुरी
 2. छउ
 3. कथकली
 4. सत्रिय

Question ID : 264330161890
Option 1 ID : 264330634890
Option 2 ID : 264330634888
Option 3 ID : 264330634889
Option 4 ID : 264330634887
Status : Not Answered
Chosen Option : --

Q.14 निम्नलिखित में से क्या सूक्ष्म वित्त संस्थानों की एक विशेषता है?

- Ans 1. बंचित लोगों को वित्तीय सेवा
 2. कॉर्पोरेट को वित्तीय सेवा
 3. केंद्रीय मंत्रियों को वित्तीय सेवा
 4. सरकारी कर्मचारियों को वित्तीय सेवा

Question ID : 264330161455
Option 1 ID : 264330633147
Option 2 ID : 264330633148
Option 3 ID : 264330633150
Option 4 ID : 264330633149
Status : Not Answered
Chosen Option : --

Q.15 निम्नलिखित में से कौन-सा बंदरगाह ओडिशा में स्थित है?

- Ans 1. कांडला बंदरगाह
 2. पारादीप बंदरगाह
 3. तूतीकोरिन बंदरगाह
 4. हल्दिया बंदरगाह

Question ID : 264330161492
Option 1 ID : 264330633297
Option 2 ID : 264330633298
Option 3 ID : 264330633295
Option 4 ID : 264330633296
Status : Not Answered
Chosen Option : --

Q.16 पर्युषण पर्व (Paryushana Parva) निम्नलिखित में से किस समुदाय का त्योहार है?

- Ans 1. हिंदू
 2. ईसाई
 3. जैन
 4. पारसी

Question ID : 264330159079
Option 1 ID : 264330623675
Option 2 ID : 264330623677
Option 3 ID : 264330623678
Option 4 ID : 264330623676
Status : Answered
Chosen Option : 3

Q.17 ऋतुराज गायकवाड़ (Ruturaj Gaikwad) लिस्ट-ए क्रिकेट (List-A cricket) में एक ओवर में कितने छक्के लगाने वाले पहले बल्लेबाज बने?

- Ans 1. 6
 2. 4
 3. 5
 4. 7

Question ID : 264330158366
Option 1 ID : 264330620825
Option 2 ID : 264330620823
Option 3 ID : 264330620824
Option 4 ID : 264330620826
Status : Answered
Chosen Option : 4

Q.18 1600 के वर्षों के दौरान लैटिन शब्द 'सेलुला (cellula)' से 'सेल (कोशिका)' शब्द किसने बनाया, जिसका अर्थ है 'छोटा कमरा (small room)'?

- Ans
- 1. थियोडोर श्वान (Theodor Schwann)
 - 2. रॉबर्ट हुक (Robert Hooke)
 - 3. लिन मार्गुलिस (Lynn Margulis)
 - 4. लुई पाश्चर (Louis Pasteur)

Question ID : 264330161081
Option 1 ID : 264330631656
Option 2 ID : 264330631655
Option 3 ID : 264330631658
Option 4 ID : 264330631657
Status : Not Answered
Chosen Option : --

Q.19 मोहिनीअट्टम एक शास्त्रीय नृत्य शैली है जो _____ से संबंधित है।

- Ans
- 1. मणिपुर
 - 2. तमिलनाडु
 - 3. ओडिशा
 - 4. केरल

Question ID : 264330159050
Option 1 ID : 264330623562
Option 2 ID : 264330623560
Option 3 ID : 264330623559
Option 4 ID : 264330623561
Status : Answered
Chosen Option : 2

Q.20 मोहोरोविकिक (मोहो) असंबद्धता _____ को अलग करती है।

- Ans
- 1. पृथ्वी का वायुमंडल और जलमंडल
 - 2. पृथ्वी का स्थलमंडल और दुर्बलतामंडल
 - 3. पृथ्वी की पर्पटी और मैटल
 - 4. पृथ्वी की पर्पटी और आंतरिक क्रोड

Question ID : 264330157831
Option 1 ID : 264330618684
Option 2 ID : 264330618683
Option 3 ID : 264330618685
Option 4 ID : 264330618686
Status : Not Answered
Chosen Option : --

Q.21 भारत में निम्नलिखित में से किस प्रकार के वनों में ऊंट पाए जाते हैं?

- Ans
- 1. पर्वतीय वन
 - 2. कांटेदार वन और झाड़ियां
 - 3. मैंग्रोव वन
 - 4. उष्णकटिबंधीय सदाबहार वन

Question ID : 264330161498
Option 1 ID : 264330633322
Option 2 ID : 264330633319
Option 3 ID : 264330633320
Option 4 ID : 264330633321
Status : Answered
Chosen Option : 4

Q.22 निम्नलिखित ब्रिटिश गवर्नर-जनरलों में से किसके अधीन ईस्ट इंडिया कंपनी द्वारा ब्रिटिश भारत में 'सर्वोच्चता (paramountcy)' की नई नीति की शुरुआत की गई थी?

- Ans
- 1. लॉर्ड वैलेस्ली
 - 2. लॉर्ड हेस्टिंग्स
 - 3. लॉर्ड एमहर्स्ट
 - 4. लॉर्ड कार्नवालिस

Question ID : 264330161738
Option 1 ID : 264330634280
Option 2 ID : 264330634279
Option 3 ID : 264330634281
Option 4 ID : 264330634282
Status : Not Answered
Chosen Option : --

Q.23 एक छोटी अवधि के दौरान किसी पिंड पर लगने वाले बल को _____ के रूप में जाना जाता है।

- Ans
- 1. आवेग
 - 2. दाब
 - 3. पृष्ठ तनाव
 - 4. तनन प्रतिबल

Question ID : 264330157783
Option 1 ID : 264330618491
Option 2 ID : 264330618492
Option 3 ID : 264330618493
Option 4 ID : 264330618494
Status : Answered
Chosen Option : 3

Q.24 निम्नलिखित कथन किसने कहा?
"मुद्रा वही है जो मुद्रा का काम करे (Money is what money does)"

- Ans 1. प्रो. सेलिगमैन (Prof. Seligman)
 2. प्रो. वाकर (Prof. Walker)
 3. प्रो. रॉबर्टसन (Prof. Robertson)
 4. प्रो. कोल (Prof. Cole)

Question ID : 264330166032
Option 1 ID : 264330651206
Option 2 ID : 264330651203
Option 3 ID : 264330651205
Option 4 ID : 264330651204
Status : Not Answered
Chosen Option : --

Q.25 जब भारत के संविधान में मौलिक कर्तव्यों को शामिल किया गया तब भारत के प्रधान मंत्री कौन था?

- Ans 1. जवाहर लाल नेहरू
 2. इंदिरा गांधी
 3. राजीव गांधी
 4. अटल बिहारी वाजपेयी

Question ID : 264330159900
Option 1 ID : 264330626948
Option 2 ID : 264330626949
Option 3 ID : 264330626947
Option 4 ID : 264330626950
Status : Not Answered
Chosen Option : --

Section : English Language and Comprehension

Q.1 Select the option that can be used as a one-word substitute for the given group of words.

Not fit for eating

- Ans 1. Inedible
 2. Ineligible
 3. Ineluctable
 4. Inept

Question ID : 264330151907
Option 1 ID : 264330595245
Option 2 ID : 264330595243
Option 3 ID : 264330595244
Option 4 ID : 264330595246
Status : Answered
Chosen Option : 1

Q.2 Select the most appropriate option to fill in the blank.
He is first _____ to his job and then to his family.

- Ans
- 1. enabled
 - 2. committed
 - 3. convinced
 - 4. confirmed

Question ID : 264330153550
Option 1 ID : 264330601702
Option 2 ID : 264330601701
Option 3 ID : 264330601699
Option 4 ID : 264330601700
Status : Answered
Chosen Option : 2

Q.3 The given sentence contains an error. Select the option that correctly rectifies the error.
He is the better-looking hero in the entire film industry.

- Ans
- 1. He is the best-looking hero more than the entire film industry.
 - 2. He is the best-looking hero in the entire film industry.
 - 3. He is the good-looking hero than the entire film industry.
 - 4. He is the good-looking hero in the entire film industry.

Question ID : 264330152608
Option 1 ID : 264330598038
Option 2 ID : 264330598036
Option 3 ID : 264330598037
Option 4 ID : 264330598035
Status : Answered
Chosen Option : 2

Q.4 Select the most appropriate option that can substitute the underlined segment in the given sentence.
They said that he is not going to call them.

- Ans
- 1. he shall not call them
 - 2. they are not going to call them
 - 3. he was not going to call them
 - 4. he has not gone to call them

Question ID : 264330152711
Option 1 ID : 264330598445
Option 2 ID : 264330598446
Option 3 ID : 264330598443
Option 4 ID : 264330598444
Status : Answered
Chosen Option : 3

Q.5 The following sentence has been split into four segments. Identify the segment that contains an error.

If he had paid / attention to the announcement, / he had not / missed the train.

- Ans** ✓ 1. he had not
✗ 2. If he had paid
✗ 3. missed the train
✗ 4. attention to the announcement

Question ID : 264330143054
Option 1 ID : 264330560493
Option 2 ID : 264330560491
Option 3 ID : 264330560494
Option 4 ID : 264330560492
Status : Answered
Chosen Option : 1

Q.6 Select the most appropriate ANTONYM of the given word.
Align

- Ans** ✓ 1. Disrupt
✗ 2. Position
✗ 3. Coincide
✗ 4. Centre

Question ID : 264330152590
Option 1 ID : 264330597963
Option 2 ID : 264330597964
Option 3 ID : 264330597966
Option 4 ID : 264330597965
Status : Not Answered
Chosen Option : --

Q.7 Select the most appropriate meaning of the given idiom.
Child's play

- Ans** ✗ 1. Weakness
✗ 2. Just behaviour
✗ 3. In someone's role
✓ 4. Something very easy

Question ID : 264330151827
Option 1 ID : 264330594936
Option 2 ID : 264330594935
Option 3 ID : 264330594938
Option 4 ID : 264330594937
Status : Answered
Chosen Option : 4

Q.8 Select the most appropriate meaning of the given idiom.

Spill the beans

- Ans
- 1. To cry over what is done
 - 2. To do things in a fair way
 - 3. To tell a secret
 - 4. To believe something as it seems

Question ID : 264330153011

Option 1 ID : 264330599615

Option 2 ID : 264330599616

Option 3 ID : 264330599617

Option 4 ID : 264330599618

Status : Answered

Chosen Option : 3

Q.9 Select the most appropriate option that can substitute the underlined segment in the given sentence.

The development of skills can contribute to structural transformation and economic growth in enhance employability and labour productivity and helping countries to become more competitive.

- Ans
- 1. by enhancing employability
 - 2. for enhanced employability
 - 3. about enhancing employability
 - 4. by enhanced employability

Question ID : 264330151900

Option 1 ID : 264330595218

Option 2 ID : 264330595217

Option 3 ID : 264330595215

Option 4 ID : 264330595216

Status : Answered

Chosen Option : 1

Q.10 Select the option that rectifies the spelling of the underlined word in the given sentence.

One of her colleagues had agreed to act as the arbitrator in finalising the contract.

- Ans
- 1. arbitor
 - 2. arbitraitor
 - 3. arbitrator
 - 4. arbitetator

Question ID : 264330153226

Option 1 ID : 264330600465

Option 2 ID : 264330600466

Option 3 ID : 264330600463

Option 4 ID : 264330600464

Status : Answered

Chosen Option : 3

Q.11 Select the most appropriate synonym of the given word.
Pretend

- Ans 1. Benign
 2. Feign
 3. Align
 4. Reign

Question ID : 264330151826
Option 1 ID : 264330594934
Option 2 ID : 264330594933
Option 3 ID : 264330594931
Option 4 ID : 264330594932
Status : Not Answered
Chosen Option : --

Q.12 Select the option that rectifies the spelling of the underlined word in the given sentence.

The tour company has included all the activities that you have requested in your itenary.

- Ans 1. itinerarey
 2. itinerary
 3. itenerarey
 4. itenary

Question ID : 264330153228
Option 1 ID : 264330600472
Option 2 ID : 264330600474
Option 3 ID : 264330600471
Option 4 ID : 264330600473
Status : Answered
Chosen Option : 2

Q.13 The following sentence has been split into four segments. Identify the segment that contains a grammatical error and select the option which rectifies that error.

The space agency wanted / to test with a chimp / before orbiting a astronaut / in a Mercury capsule.

- Ans 1. The space agency want
 2. before orbiting an astronaut
 3. in an Mercury capsule.
 4. to test with an chimp

Question ID : 264330141339
Option 1 ID : 264330553691
Option 2 ID : 264330553692
Option 3 ID : 264330553693
Option 4 ID : 264330553694
Status : Answered
Chosen Option : 2

Q.14 Select the most appropriate option that can substitute the underlined segment in the given sentence.

If you need any help tomorrow, let him knows.

- Ans
- 1. let me know
 - 2. let him known
 - 3. let them knew
 - 4. let us known

Question ID : 264330153596
Option 1 ID : 264330601873
Option 2 ID : 264330601872
Option 3 ID : 264330601871
Option 4 ID : 264330601874
Status : Answered
Chosen Option : 1

Q.15 Select the most appropriate meaning of the underlined idiom.

The entrepreneur decided to throw caution to the wind.

- Ans
- 1. Take a risk
 - 2. Take the best option
 - 3. In extreme windy conditions
 - 4. Think innovatively

Question ID : 264330153146
Option 1 ID : 264330600145
Option 2 ID : 264330600143
Option 3 ID : 264330600146
Option 4 ID : 264330600144
Status : Answered
Chosen Option : 1

Q.16 Select the most appropriate meaning of the underlined idiom.

The mother requested the nurse to keep an eye on the baby while she went for tea.

- Ans
- 1. Watch for the arrival or appearance
 - 2. Watch and take care
 - 3. Keep informed
 - 4. Mistreat

Question ID : 264330151832
Option 1 ID : 264330594956
Option 2 ID : 264330594958
Option 3 ID : 264330594955
Option 4 ID : 264330594957
Status : Answered
Chosen Option : 2

Q.17 Select the most appropriate option that can substitute the underlined segment in the given sentence.

Everyone likes in watch a magic show.

- Ans
- 1. liked in watch
 - 2. likes to watching
 - 3. like in watching
 - 4. likes to watch

Question ID : 264330153472
Option 1 ID : 264330601406
Option 2 ID : 264330601404
Option 3 ID : 264330601405
Option 4 ID : 264330601403
Status : Answered
Chosen Option : 4

Q.18 Parts of the following sentence have been underlined and given as options. Select the option that contains a misspelt word.
For every endeavour-whether in the area of career, academics, music, sports or even in spirituality, it is a long ardous journey.

- Ans
- 1. career
 - 2. academics
 - 3. ardous
 - 4. endeavour

Question ID : 264330151836
Option 1 ID : 264330594972
Option 2 ID : 264330594973
Option 3 ID : 264330594974
Option 4 ID : 264330594971
Status : Answered
Chosen Option : 1

Q.19 Select the most appropriate option that can substitute the underlined segment in the given sentence.

Helena loves to dig and played in the dirt like any other child.

- Ans
- 1. playing with in dirt
 - 2. plays of dirt
 - 3. play in the dirt
 - 4. playing on dirt

Question ID : 264330153485
Option 1 ID : 264330601458
Option 2 ID : 264330601457
Option 3 ID : 264330601456
Option 4 ID : 264330601455
Status : Answered
Chosen Option : 3

Q.20 Select the most appropriate synonym of the given word.
Tedious

- Ans** 1. Dynamic
 2. Hostile
 3. Dreary
 4. Carefree

Question ID : 264330152681
Option 1 ID : 264330598327
Option 2 ID : 264330598330
Option 3 ID : 264330598329
Option 4 ID : 264330598328
Status : Answered
Chosen Option : 3

Comprehension:

In the following passage, some words have been deleted. Read the passage carefully and select the most appropriate option to fill in each blank.

There will only be two types of human beings in the future: the minority having enormous brains and (1)_____ bodies, and the majority with tiny brains and muscular bodies. The size of the average brain will (2)_____ diminish; not because of our innate laziness, but because of our over-concern about our physical appearance. In the old days, most people dreamt of having shelter and a stable food supply. As we no longer struggle for the basic (3)_____, our dreams focus instead on the search for physical beauty, how to obtain and maintain the 'ideal body shape' and healthy life the media promotes. Physical beauty will become the main goal of the majority. They'll do exercises every day, taking (4)_____ to maintain their shape while not noticing that their brains are shrinking. Actually, there is no doubt that they'll work (5)_____ hard to make their brains smaller.

SubQuestion No : 21

Q.21 Select the most appropriate option to fill in blank number 1.

- Ans** 1. cute
 2. minute
 3. tiny
 4. minor

Question ID : 264330153054
Option 1 ID : 264330599780
Option 2 ID : 264330599782
Option 3 ID : 264330599779
Option 4 ID : 264330599781
Status : Answered
Chosen Option : 3

Comprehension:

In the following passage, some words have been deleted. Read the passage carefully and select the most appropriate option to fill in each blank.

There will only be two types of human beings in the future: the minority having enormous brains and (1)_____ bodies, and the majority with tiny brains and muscular bodies. The size of the average brain will (2)_____ diminish; not because of our innate laziness, but because of our over-concern about our physical appearance. In the old days, most people dreamt of having shelter and a stable food supply. As we no longer struggle for the basic (3)_____, our dreams focus instead on the search for physical beauty, how to obtain and maintain the 'ideal body shape' and healthy life the media promotes. Physical beauty will become the main goal of the majority. They'll do exercises every day, taking (4)_____ to maintain their shape while not noticing that their brains are shrinking. Actually, there is no doubt that they'll work (5)_____ hard to make their brains smaller.

SubQuestion No : 22

Q.22 Select the most appropriate option to fill in blank number 2.

- Ans
- 1. properly
 - 2. slightly
 - 3. gradually
 - 4. appropriately

Question ID : 264330153055

Option 1 ID : 264330599783

Option 2 ID : 264330599785

Option 3 ID : 264330599784

Option 4 ID : 264330599786

Status : Answered

Chosen Option : 3

Comprehension:

In the following passage, some words have been deleted. Read the passage carefully and select the most appropriate option to fill in each blank.

There will only be two types of human beings in the future: the minority having enormous brains and (1)_____ bodies, and the majority with tiny brains and muscular bodies. The size of the average brain will (2)_____ diminish; not because of our innate laziness, but because of our over-concern about our physical appearance. In the old days, most people dreamt of having shelter and a stable food supply. As we no longer struggle for the basic (3)_____, our dreams focus instead on the search for physical beauty, how to obtain and maintain the 'ideal body shape' and healthy life the media promotes. Physical beauty will become the main goal of the majority. They'll do exercises every day, taking (4)_____ to maintain their shape while not noticing that their brains are shrinking. Actually, there is no doubt that they'll work (5)_____ hard to make their brains smaller.

SubQuestion No : 23

Q.23 Select the most appropriate option to fill in blank number 3.

- Ans
- 1. necessities
 - 2. identities
 - 3. facilities
 - 4. amenities

Question ID : 264330153056

Option 1 ID : 264330599789

Option 2 ID : 264330599790

Option 3 ID : 264330599788

Option 4 ID : 264330599787

Status : Answered

Chosen Option : 2

Comprehension:

In the following passage, some words have been deleted. Read the passage carefully and select the most appropriate option to fill in each blank.

There will only be two types of human beings in the future: the minority having enormous brains and (1)_____ bodies, and the majority with tiny brains and muscular bodies. The size of the average brain will (2)_____ diminish; not because of our innate laziness, but because of our over-concern about our physical appearance. In the old days, most people dreamt of having shelter and a stable food supply. As we no longer struggle for the basic (3)_____, our dreams focus instead on the search for physical beauty, how to obtain and maintain the 'ideal body shape' and healthy life the media promotes. Physical beauty will become the main goal of the majority. They'll do exercises every day, taking (4)_____ to maintain their shape while not noticing that their brains are shrinking. Actually, there is no doubt that they'll work (5)_____ hard to make their brains smaller.

SubQuestion No : 24

Q.24 Select the most appropriate option to fill in blank number 4.

Ans 1. preservatives

2. additives

3. nutrients

4. nutrition

Question ID : 264330153057

Option 1 ID : 264330599794

Option 2 ID : 264330599793

Option 3 ID : 264330599791

Option 4 ID : 264330599792

Status : Answered

Chosen Option : 4

Comprehension:

In the following passage, some words have been deleted. Read the passage carefully and select the most appropriate option to fill in each blank.

There will only be two types of human beings in the future: the minority having enormous brains and (1)_____ bodies, and the majority with tiny brains and muscular bodies. The size of the average brain will (2)_____ diminish; not because of our innate laziness, but because of our over-concern about our physical appearance. In the old days, most people dreamt of having shelter and a stable food supply. As we no longer struggle for the basic (3)_____, our dreams focus instead on the search for physical beauty, how to obtain and maintain the 'ideal body shape' and healthy life the media promotes. Physical beauty will become the main goal of the majority. They'll do exercises every day, taking (4)_____ to maintain their shape while not noticing that their brains are shrinking. Actually, there is no doubt that they'll work (5)_____ hard to make their brains smaller.

SubQuestion No : 25

Q.25 Select the most appropriate option to fill in blank number 5.

Ans 1. extremely

2. so

3. impishly

4. rarely

Question ID : 264330153058

Option 1 ID : 264330599797

Option 2 ID : 264330599795

Option 3 ID : 264330599798

Option 4 ID : 264330599796

Status : Answered

Chosen Option : 2

Multi Tasking Non Technical Staff and Havaladar CBIC and CBN Examination 2023

Roll Number	KD Job Updates
Candidate Name	KD Job Updates
Venue Name	ANAND INTERNATIONAL COLLEGE OF ENGINEERING JAIPUR
Exam Date	14/09/2023
Exam Time	9:00 AM - 11:00 AM
Subject	MTS Non Tech Havaladar CBIC and CBN Examination 2023

Section : Numerical and Mathematical Ability

Q.1 श्री कालरा ने अपने बेटे की शिक्षा के खर्चों को पूरा करने के लिए ₹1.35,000 ऋण पर लिए। यदि वार्षिक रूप से संयोजित ब्याज की दर 12% वार्षिक है, तो 2 वर्ष 3 माह के बाद उन्हें ऋण चुकता करने के लिए कितनी धनराशि कमाना होगी?

- Ans**
- ✓ 1. ₹1,74,424.32
 - ✗ 2. ₹1,49,920.32
 - ✗ 3. ₹1,50,640.40
 - ✗ 4. ₹1,74,760

Question ID : 264330154131

Option 1 ID : 264330603988

Option 2 ID : 264330603989

Option 3 ID : 264330603990

Option 4 ID : 264330603987

Status : Answered

Chosen Option : 3

Q.2 एक आदमी ने 72 मिनट में 7.5 km की दूरी तय करने का निर्णय लिया। उसने दो-तिहाई दूरी 5 km/h की चाल से और शेष दूरी को कुछ अलग चाल से तय करने का निर्णय लिया। दो तिहाई दूरी तय करने के बाद चाल ज्ञात कीजिए।

- Ans**
- ✗ 1. 14.3 km/h
 - ✗ 2. 10 km/h
 - ✓ 3. 12.5 km/h
 - ✗ 4. 15.5 km/h

Question ID : 264330156361

Option 1 ID : 264330612845

Option 2 ID : 264330612843

Option 3 ID : 264330612844

Option 4 ID : 264330612846

Status : Answered

Chosen Option : 2

Q.3 6 कुशल श्रमिक एक काम को 4 दिनों में पूरा कर सकते हैं। तीन दिनों के बाद 3 और कुशल श्रमिक उनके साथ शामिल हो जाते हैं। शेष काम को पूरा करने में उन्हें अब कितने दिन का समय लगेगा?

- Ans**
- 1. $\frac{1}{3}$
 - 2. $\frac{2}{3}$
 - 3. $\frac{3}{4}$
 - 4. $\frac{1}{2}$

Question ID : 264330155760

Option 1 ID : 264330610443

Option 2 ID : 264330610446

Option 3 ID : 264330610445

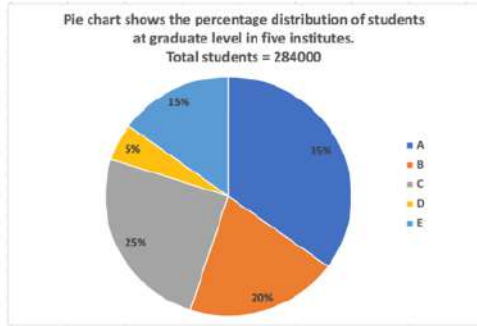
Option 4 ID : 264330610444

Status : Answered

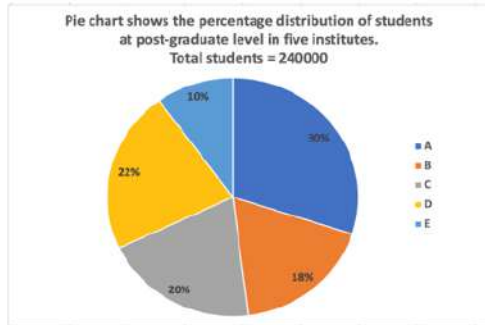
Chosen Option : 2

KD Job Updates

Q.4 निम्नलिखित वृत्त आलेख में एक शहर के पांच अलग-अलग संस्थानों में स्नातक और स्नातकोत्तर स्तर के छात्रों के प्रतिशत वितरण को दर्शाया गया है।



संदर्भ: Pie-charts shows the percentage distribution of students at graduate level in five institutes - वृत्त आलेख पांच संस्थानों में स्नातक स्तर पर छात्रों के प्रतिशत वितरण को दर्शाता है, Total students - कुल छात्र



संदर्भ: Pie-charts shows the percentage distribution of students at post-graduate level in five institutes - वृत्त आलेख पांच संस्थानों में स्नातकोत्तर स्तर पर छात्रों के प्रतिशत वितरण को दर्शाता है, Total students - कुल छात्र

स्नातक स्तर पर संस्थान A, C और E से और स्नातकोत्तर स्तर पर संस्थान B और D से छात्रों की कुल संख्या कितनी है?

- Ans
- ✗ 1. 300090
 - ✓ 2. 309000
 - ✗ 3. 300900
 - ✗ 4. 390000

Question ID : 264330153786

Option 1 ID : 264330602608

Option 2 ID : 264330602610

Option 3 ID : 264330602609

Option 4 ID : 264330602607

Status : Answered

Chosen Option : 2

Q.5 तीन संख्याएँ 1 : 2 : 3 के अनुपात में हैं। प्रत्येक संख्या में 5 जोड़ने पर अनुपात 2 : 3 : 4 हो जाता है। सबसे छोटी संख्या कौन-सी है?

- Ans**
- 1. 15
 - 2. 20
 - 3. 12
 - 4. 5

Question ID : 264330154049
Option 1 ID : 264330603660
Option 2 ID : 264330603659
Option 3 ID : 264330603661
Option 4 ID : 264330603662
Status : Answered
Chosen Option : 4

Q.6 एक निश्चित धनराशि का एक निश्चित अवधि के लिए 12% वार्षिक साधारण ब्याज की दर पर निवेश किया जाता है। यदि अवधि के अंत में धनराशि मूलधन का चार गुना हो जाती है, तो निवेश की अवधि क्या है?

- Ans**
- 1. 20 वर्ष
 - 2. 25 वर्ष
 - 3. 24 वर्ष
 - 4. 22 वर्ष

Question ID : 264330156271
Option 1 ID : 264330612483
Option 2 ID : 264330612486
Option 3 ID : 264330612485
Option 4 ID : 264330612484
Status : Answered
Chosen Option : 2

Q.7 दो शहरों के बीच की दूरी 9 घंटे में 60 kmph की चाल से तय की जाती है। चाल (km/h में) कितनी बढ़ाई जानी चाहिए ताकि यात्रा के समय में 1 घंटे की बचत की जा सके?

- Ans**
- 1. 15
 - 2. 12.5
 - 3. 7.5
 - 4. 10

Question ID : 264330156489
Option 1 ID : 264330613344
Option 2 ID : 264330613346
Option 3 ID : 264330613343
Option 4 ID : 264330613345
Status : Answered
Chosen Option : 3

Q.8 The diameter of the base of a cylindrical vessel is 30 cm and its height is 56 cm. Find its curved surface area (in cm^2).

- Ans**
- ✓ 1. 5280
 - ✗ 2. 6280
 - ✗ 3. 6080
 - ✗ 4. 5080

Question ID : 264330153863

Option 1 ID : 264330602917

Option 2 ID : 264330602918

Option 3 ID : 264330602916

Option 4 ID : 264330602915

Status : Answered

Chosen Option : 1

Q.9 A और B एक काम को क्रमशः 30 दिन और 40 दिन में पूरा कर सकते हैं। वे साथ मिलकर काम करना शुरू करते हैं लेकिन एक निश्चित समय के बाद, A काम छोड़ देता है और B शेष काम को 25 दिनों में पूरा करता है। A कितने दिनों के बाद काम छोड़ता है?

- Ans**
- ✗ 1. $6\frac{1}{7}$
 - ✗ 2. $5\frac{3}{7}$
 - ✓ 3. $6\frac{3}{7}$
 - ✗ 4. $5\frac{2}{7}$

Question ID : 264330155757

Option 1 ID : 264330610431

Option 2 ID : 264330610433

Option 3 ID : 264330610434

Option 4 ID : 264330610432

Status : Answered

Chosen Option : 3

Q.10 एक घनाभ की लंबाई, चौड़ाई और ऊंचाई 6 : 4 : 3 के अनुपात में है। यदि घनाभ का कुल पृष्ठीय क्षेत्रफल 972 cm^2 है, तो घनाभ के विकर्ण की लंबाई (cm में) क्या है?

- Ans**
- ✗ 1. $3\sqrt{65}$
 - ✗ 2. $5\sqrt{65}$
 - ✗ 3. $5\sqrt{61}$
 - ✓ 4. $3\sqrt{61}$

Question ID : 264330153792

Option 1 ID : 264330602632

Option 2 ID : 264330602631

Option 3 ID : 264330602634

Option 4 ID : 264330602633

Status : Answered

Chosen Option : 4

Q.11 दी गई तालिका का अध्ययन कीजिए और दिए गए प्रश्न का उत्तर दीजिए।

तालिका में एक विश्वविद्यालय में अलग-अलग क्षेत्रों में उपस्थित और उत्तीर्ण होने वाले छात्रों की संख्या को दर्शाया गया है।

वर्ष	चिकित्सा		इंजीनियरिंग		कॉमर्स		प्रबंधन	
	उपस्थित	उत्तीर्ण	उपस्थित	उत्तीर्ण	उपस्थित	उत्तीर्ण	उपस्थित	उत्तीर्ण
2010	300	250	460	256	380	352	365	322
2011	345	320	440	365	401	354	314	314
2012	280	240	384	327	460	400	378	344
2013	310	230	390	290	430	392	387	353
2014	450	380	415	358	388	352	270	227
2015	380	286	486	456	366	315	290	257

2011 में उपस्थित होने वाले कुल छात्रों में से कितने प्रतिशत छात्र चिकित्सा क्षेत्र में उपस्थित हुए?

- Ans
- 1. 25%
 - 2. 21%
 - 3. 23%
 - 4. 20%

Question ID : 264330156241

Option 1 ID : 264330612366

Option 2 ID : 264330612364

Option 3 ID : 264330612365

Option 4 ID : 264330612363

Status : Answered

Chosen Option : 3

Q.12 लड़के और लड़कियों की एक कक्षा में, लड़कियों की संख्या लड़कों की संख्या से दोगुनी है। यदि 20 और लड़के कक्षा में शामिल हो जाते हैं, तो लड़कियों और लड़कों का अनुपात 1 : 1 हो जाता है। शुरुआत में कक्षा में कुल कितने विद्यार्थी थे?

- Ans
- 1. 60
 - 2. 45
 - 3. 90
 - 4. 75

Question ID : 264330153807

Option 1 ID : 264330602692

Option 2 ID : 264330602691

Option 3 ID : 264330602694

Option 4 ID : 264330602693

Status : Answered

Chosen Option : 1

Q.13 अतुल एक ग्राहक को P% लाभ पर माल बेचता है। यदि ग्राहक के लिए माल का क्रय मूल्य ₹1,50,000 है और अतुल ₹30,000 का लाभ अर्जित करता है, तो P का मान क्या है?

- Ans
- 1. 25
 - 2. 22
 - 3. 28
 - 4. 20

Question ID : 264330159631

Option 1 ID : 264330625885

Option 2 ID : 264330625884

Option 3 ID : 264330625886

Option 4 ID : 264330625883

Status : Answered

Chosen Option : 1

Q.14 $6\frac{4}{5} \div \left[4\frac{1}{4} \div \left\{ 5\frac{1}{3} \times \frac{3}{8} + \left(3\frac{1}{2} + \frac{2}{3} \right) \times \frac{4}{5} \right\} \right]$ को सरल कीजिए।

- Ans
- 1. $7\frac{8}{15}$
 - 2. $7\frac{8}{25}$
 - 3. $8\frac{8}{15}$
 - 4. $8\frac{8}{25}$

Question ID : 264330153752

Option 1 ID : 264330602474

Option 2 ID : 264330602472

Option 3 ID : 264330602473

Option 4 ID : 264330602471

Status : Answered

Chosen Option : 2

Q.15 8 लीटर की मात्रा वाले मिश्रण 1 में 80% दूध है और 6 लीटर की मात्रा वाले मिश्रण 2 में 60% दूध है। दोनों मिश्रण मिला दिए जाते हैं। अंतिम मिश्रण में दूध का प्रतिशत ज्ञात कीजिए।

- Ans
- 1. $\frac{800}{9}$
 - 2. $\frac{600}{7}$
 - 3. $\frac{500}{7}$
 - 4. $\frac{500}{9}$

Question ID : 264330153801

Option 1 ID : 264330602670

Option 2 ID : 264330602668

Option 3 ID : 264330602669

Option 4 ID : 264330602667

Status : Answered

Chosen Option : 3

Q.16 अमित ने 60 मील प्रति घंटे की चाल से 6 घंटे और 40 मील प्रति घंटे की चाल से 6 घंटे गाड़ी चलाई। पूरी यात्रा में उसकी औसत चाल (मील प्रति घंटे में) क्या थी?

- Ans
- 1. 48
 - 2. 50
 - 3. 46
 - 4. 44

Question ID : 264330156215

Option 1 ID : 264330612261

Option 2 ID : 264330612262

Option 3 ID : 264330612260

Option 4 ID : 264330612259

Status : Answered

Chosen Option : 2

Q.17 एक गहना 3 बार बेचा गया और कुल मिलाकर इसके मूल्य में 80% की वृद्धि हुई, पहला विक्रेता क्रमशः 20% लाभ अर्जित करता है और दूसरा विक्रेता 25% लाभ अर्जित करता है, तीसरे विक्रेता द्वारा अर्जित लाभ का प्रतिशत ज्ञात कीजिए?

- Ans
- 1. 15%
 - 2. 20%
 - 3. 10%
 - 4. 5%

Question ID : 264330153839

Option 1 ID : 264330602819

Option 2 ID : 264330602821

Option 3 ID : 264330602822

Option 4 ID : 264330602820

Status : Answered

Chosen Option : 2

Q.18 एक पुलिसकर्मी 250 m की दूरी से एक चोर को देखता है। जब पुलिसकर्मी चोर का पीछा करना शुरू करता है तो चोर भी भागने लगता है। मान लीजिए कि चोर की चाल 10 km/h है और पुलिसकर्मी की चाल 12.5 km/h है। पकड़े जाने से पहले चोर कितनी दूर भाग चुका होगा?

- Ans
- 1. 1 km
 - 2. 2 km
 - 3. 3 km
 - 4. 4 km

Question ID : 264330156347

Option 1 ID : 264330612787

Option 2 ID : 264330612788

Option 3 ID : 264330612789

Option 4 ID : 264330612790

Status : Answered

Chosen Option : 1

Q.19 दो संख्याओं का अनुपात 7 : 11 है और उनका लघुत्तम समापवर्त्य 462 है। इन दोनों संख्याओं के बीच का अंतर क्या है?

- Ans
- 1. 30
 - 2. 24
 - 3. 28
 - 4. 26

Question ID : 264330155688

Option 1 ID : 264330610158

Option 2 ID : 264330610155

Option 3 ID : 264330610157

Option 4 ID : 264330610156

Status : Answered

Chosen Option : 2

Q.20 रिकी अपने वेतन का 35% किराने के सामान पर, 15% ऋण पर, 14% बिजली के बिल पर और 6% अन्य पर खर्च करता है। यदि एक माह के अंत में उसकी बचत ₹2,400 है, तो उसका प्रति माह वेतन (₹ में) कितना है?

- Ans**
- ✓ 1. 8,000
 - ✗ 2. 5,828
 - ✗ 3. 4,000
 - ✗ 4. 6,000

Question ID : 264330156431

Option 1 ID : 264330613116

Option 2 ID : 264330613117

Option 3 ID : 264330613118

Option 4 ID : 264330613115

Status : Answered

Chosen Option : 1

Section : Reasoning Ability and Problem Solving

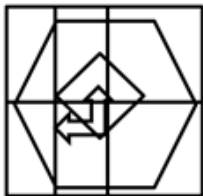
Q.1 उस विकल्प आकृति को चुनिए जिसमें दी गई आकृति (X) उसके भाग के रूप में निहित है। (घूर्णन की अनुमति नहीं है)



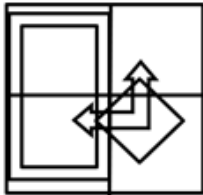
(X)

Ans

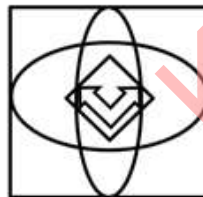
✗ 1.



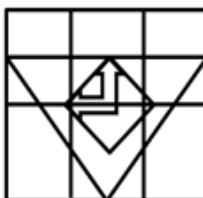
✗ 2.



✗ 3.



✓ 4.



Question ID : 264330151732

Option 1 ID : 264330594555

Option 2 ID : 264330594556

Option 3 ID : 264330594558

Option 4 ID : 264330594557

Status : Answered

Chosen Option : 4

Q.2 यदि T का अर्थ '1', J का अर्थ 'x', K का अर्थ '4' और L का अर्थ '2' है, तो निम्नलिखित समीकरण में प्रश्न चिन्ह (?) के स्थान पर क्या आएगा?
(95 K 19) J 7 L 15 I (10 J 4) = ?

- Ans**
- 1. 70
 - 2. 40
 - 3. 60
 - 4. 50

Question ID : **264330151795**
Option 1 ID : **264330594810**
Option 2 ID : **264330594808**
Option 3 ID : **264330594807**
Option 4 ID : **264330594809**
Status : **Answered**
Chosen Option : **3**

Q.3 एक निश्चित तर्क के अनुसार 428, 317 से संबंधित है। समान तर्क के अनुसार, 285, 174 से संबंधित है। समान तर्क का अनुसरण करते हुए 597 निम्नलिखित में से किससे संबंधित है?

- Ans**
- 1. 368
 - 2. 486
 - 3. 386
 - 4. 468

Question ID : **264330151597**
Option 1 ID : **264330594016**
Option 2 ID : **264330594018**
Option 3 ID : **264330594015**
Option 4 ID : **264330594017**
Status : **Answered**
Chosen Option : **3**

Q.4 एक निश्चित कूट भाषा में, 'NAIL' को '2637' लिखा जाता है और 'LANE' को '3278' लिखा जाता है। उसी कूट भाषा में 'E' को कैसे लिखा जाएगा?

- Ans**
- 1. 2
 - 2. 8
 - 3. 3
 - 4. 7

Question ID : **264330151699**
Option 1 ID : **264330594426**
Option 2 ID : **264330594424**
Option 3 ID : **264330594425**
Option 4 ID : **264330594423**
Status : **Answered**
Chosen Option : **2**

Q.5 नीचे दिए गए कथनों और निष्कर्षों को ध्यानपूर्वक पढ़िए। आपको मानना है कि दिए गए कथन सत्य हैं चाहे वे समान्यतः ज्ञात तथ्यों से अलग प्रतीत होते हों। आपको निश्चय करना है कि कौन-सा/कौन-से निष्कर्ष तार्किक रूप से दिए गए कथनों के अनुसार है/हैं।

कथन: सभी टुक, बाइकें हैं। सभी बाइकें, ठेले हैं। कुछ ठेले, कलमें हैं।

निष्कर्ष I: कुछ टुक, ठेले हैं।

निष्कर्ष II: कोई बाइकें, कलमें नहीं हैं।

Ans

- ✗ 1. केवल निष्कर्ष (II) कथनों के अनुसार है।
- ✓ 2. केवल निष्कर्ष (I) कथनों के अनुसार है।
- ✗ 3. दोनों निष्कर्ष (I) और (II) कथनों के अनुसार हैं।
- ✗ 4. न तो निष्कर्ष (I) और न ही (II) कथनों के अनुसार है।

Question ID : 264330155922

Option 1 ID : 264330611092

Option 2 ID : 264330611091

Option 3 ID : 264330611094

Option 4 ID : 264330611093

Status : Answered

Chosen Option : 2

Q.6 उस समुच्चय को चुनिए जिसमें संख्याएँ ठीक उसी प्रकार संबंधित हैं जिस प्रकार निम्नलिखित समुच्चयों की संख्याएँ संबंधित हैं।

(ध्यान दें: संख्याओं को उनके घटक अंकों में अलग-अलग किए बिना, पूर्ण संख्याओं पर संक्रियाएँ की जानी चाहिए। उदा. 13 - संख्या 13 पर संक्रियाएँ जैसे 13 को जोड़ना/घटाना/गुणा करना आदि किया जा सकता है। 13 को 1 और 3 में अलग-अलग करने की ओर फिर 1 और 3 पर गणितीय संक्रियाएँ करने की अनुमति नहीं है।)

(14, 42, 7)

(12, 34, 5)

Ans

- ✗ 1. 25, 131, 2
- ✗ 2. 17, 102, 5
- ✓ 3. 43, 144, 29
- ✗ 4. 36, 702, 2

Question ID : 264330151612

Option 1 ID : 264330594075

Option 2 ID : 264330594077

Option 3 ID : 264330594078

Option 4 ID : 264330594076

Status : Answered

Chosen Option : 1

Q.7 यदि '+' और '-' को आपस में बदल दिया जाए तथा '×' और '÷' को आपस में बदल दिया जाए तो निम्नलिखित समीकरण में (?) के स्थान पर क्या आएगा?

$$357 \times 7 + 19 \div 2 - 38 = ?$$

Ans

- ✗ 1. 61
- ✗ 2. 71
- ✗ 3. 41
- ✓ 4. 51

Question ID : 264330155679

Option 1 ID : 264330610120

Option 2 ID : 264330610121

Option 3 ID : 264330610122

Option 4 ID : 264330610119

Status : Answered

Chosen Option : 4

Q.8 अक्षरों के उस संयोजन को चुनिए जिसे दी गई श्रृंखला के रिक्त स्थानों में क्रमिक रूप से रखने पर श्रृंखला ताकिक रूप से पूरी हो जाएगी।

PYJ_ S_LM _YNM YY_M B_RM

- Ans
- ✓ 1. MYVPY
 - ✗ 2. MHAPV
 - ✗ 3. HAPPY
 - ✗ 4. PMGHY

Question ID : 264330156317

Option 1 ID : 264330612668

Option 2 ID : 264330612669

Option 3 ID : 264330612667

Option 4 ID : 264330612670

Status : Not Attempted and Marked For Review

Chosen Option : --

Q.9 RN 12, PL 16 से एक निश्चित प्रकार से संबंधित है। उसी प्रकार, EJ 17, CH 21 से संबंधित है। समान तर्क का अनुसरण करते हुए FL 15 निम्नलिखित में से किससे संबंधित है?

- Ans
- ✗ 1. HN 18
 - ✗ 2. DK 19
 - ✗ 3. CI 20
 - ✓ 4. DJ 19

Question ID : 264330151670

Option 1 ID : 264330594309

Option 2 ID : 264330594307

Option 3 ID : 264330594310

Option 4 ID : 264330594308

Status : Answered

Chosen Option : 4

Q.10 अक्षरों के उस संयोजन को चुनिए जिसे दी गई श्रृंखला के रिक्त स्थानों में क्रमिक रूप से रखने पर श्रृंखला पूरी हो जाएगी।

_ FFEF _ _ FF _ F _

- Ans
- ✓ 1. EFEEF
 - ✗ 2. EEEFE
 - ✗ 3. EFFE
 - ✗ 4. EFFEE

Question ID : 264330151654

Option 1 ID : 264330594243

Option 2 ID : 264330594244

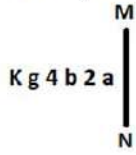
Option 3 ID : 264330594246

Option 4 ID : 264330594245

Status : Answered

Chosen Option : 1

Q.11 दी गई आकृति के उस सही दर्पण प्रतिबिंब को चुनिए, जो नीचे दर्शाए गए अनुसार दर्पण को MN पर रखने पर बनेगा।



- Ans
- ✓ 1. **K g 4 b 2 a**
 - ✗ 2. **e 2 d t g K**
 - ✗ 3. **K g 4 b 2 a**
 - ✗ 4. **K g 4 b 2 a**

Question ID : 264330151518

Option 1 ID : 264330593700

Option 2 ID : 264330593699

Option 3 ID : 264330593701

Option 4 ID : 264330593702

Status : Answered

Chosen Option : 1

Q.12 किरण, पीहू, सिया, लीना, रीना और जिया एक वृत्ताकार मेज के चारों ओर केंद्र की ओर मुख करके बैठी हैं। किरण, पीहू के दाईं ओर से तीसरे स्थान पर बैठी है। सिया, किरण के दाईं ओर से दूसरे स्थान पर बैठी है। लीना, सिया के बाईं ओर से तीसरे स्थान पर बैठी है। रीना, लीना की निकटतम पड़ोसी है। जिया के ठीक बाईं ओर कौन बैठी है?

- Ans
- ✗ 1. लीना
 - ✗ 2. सिया
 - ✓ 3. किरण
 - ✗ 4. पीहू

Question ID : 264330155652

Option 1 ID : 264330610014

Option 2 ID : 264330610012

Option 3 ID : 264330610011

Option 4 ID : 264330610013

Status : Answered

Chosen Option : 3

Q.13 दी गई श्रृंखला में प्रश्न चिन्ह '?' के स्थान पर क्या आना चाहिए?

14 85 511 3067 18403 ?

- Ans
- ✗ 1. 110119
 - ✗ 2. 110279
 - ✗ 3. 110581
 - ✓ 4. 110419

Question ID : 264330151486

Option 1 ID : 264330593571

Option 2 ID : 264330593572

Option 3 ID : 264330593574

Option 4 ID : 264330593573

Status : Not Answered

Chosen Option : --

Q.14 यदि निम्नलिखित आकृति श्रृंखला को जारी रखना हो तो कौन-सी आकृति प्रश्न चिन्ह (?) के स्थान पर आनी चाहिए?

X	9	B	☆	T	L	9	X	
	☆		L		X		B	?
B	L	T	X	T	9	9	B	☆
							T	☆
								L

Ans

✓ 1.

☆		B
	T	
L	9	X

✗ 2.

L		B
	T	
☆	X	9

✗ 3.

X		B
	9	
L	T	☆

✗ 4.

L		T
	☆	
X	B	9

Question ID : 264330154744

Option 1 ID : 264330606440

Option 2 ID : 264330606442

Option 3 ID : 264330606439

Option 4 ID : 264330606441

Status : Not Answered

Chosen Option : --

Q.15 एक निश्चित कूट भाषा में, 'MENTOR' को 'EMOUPS' लिखा जाता है और 'OCTAGON' को 'COUBHPO' लिखा जाता है। उस कूट भाषा में 'PENCIL' को कैसे लिखा जाएगा?

- Ans
- ✗ 1. EPLICN
 - ✗ 2. PLICNE
 - ✓ 3. EPODJM
 - ✗ 4. LINCENP

Question ID : 264330155828

Option 1 ID : 264330610717

Option 2 ID : 264330610718

Option 3 ID : 264330610716

Option 4 ID : 264330610715

Status : Not Answered

Chosen Option : --

Q.16 दी गई श्रृंखला में प्रश्न चिह्न '?' के स्थान पर क्या आना चाहिए?

26 37 59 92 136 ?

- Ans
- 1. 192
 - 2. 193
 - 3. 191
 - 4. 190

Question ID : 264330151555
Option 1 ID : 264330593849
Option 2 ID : 264330593850
Option 3 ID : 264330593848
Option 4 ID : 264330593847
Status : Answered
Chosen Option : 3

Q.17 दी गई श्रृंखला में प्रश्न चिह्न '?' के स्थान पर क्या आना चाहिए?

3 21 111 561 2811 ?

- Ans
- 1. 13468
 - 2. 12952
 - 3. 12786
 - 4. 14061

Question ID : 264330151471
Option 1 ID : 264330593513
Option 2 ID : 264330593512
Option 3 ID : 264330593511
Option 4 ID : 264330593514
Status : Not Answered
Chosen Option : --

Q.18 यदि 5 मई 2010 को बुधवार है, तो 5 जून 2022 को सप्ताह का कौन-सा दिन होगा?

- Ans
- 1. रविवार
 - 2. बुधवार
 - 3. मंगलवार
 - 4. सोमवार

Question ID : 264330154338
Option 1 ID : 264330604815
Option 2 ID : 264330604818
Option 3 ID : 264330604817
Option 4 ID : 264330604816
Status : Not Answered
Chosen Option : --

Q.19 अंग्रेजी वर्णमाला क्रम के आधार पर दी गई श्रृंखला में प्रश्न चिह्न '?' के स्थान पर कौन-सा अक्षर-समूह आना चाहिए?

YFD, VJA, SNX, PRU, ?

- Ans
- 1. MXS
 - 2. NWR
 - 3. NWS
 - 4. MVR

Question ID : 264330156301

Option 1 ID : 264330612606

Option 2 ID : 264330612603

Option 3 ID : 264330612604

Option 4 ID : 264330612605

Status : Answered

Chosen Option : 4

Q.20 नीचे दिए गए कथनों और निष्कर्षों को ध्यानपूर्वक पढ़िए। आपको मानना है कि दिए गए कथन सत्य हैं चाहे वे सामान्यतः ज्ञात तथ्यों से अलग प्रतीत होते हों। आपको निश्चय करना है कि कौन-सा/कौन-से निष्कर्ष तार्किक रूप से दिए गए कथनों के अनुसार है/हैं।

कथन: कुछ चार्जर, धातु हैं। सभी धातु, कठोर हैं। कुछ कठोर, स्टूल हैं।

निष्कर्ष I: सभी चार्जर, धातु हैं।

निष्कर्ष II: कुछ स्टूल, कठोर हैं।

- Ans
- 1. दोनों निष्कर्ष (I) और (II) कथनों के अनुसार हैं।
 - 2. केवल निष्कर्ष (I) कथनों के अनुसार है।
 - 3. केवल निष्कर्ष (II) कथनों के अनुसार है।
 - 4. न तो निष्कर्ष (I) और न ही (II) कथनों के अनुसार है।

Question ID : 264330155902

Option 1 ID : 264330611014

Option 2 ID : 264330611011

Option 3 ID : 264330611012

Option 4 ID : 264330611013

Status : Answered

Chosen Option : 3

Section : General Awareness

Q.1 कर्नाटक का कोलार क्षेत्र निम्नलिखित में से किस खनिज के लिए प्रसिद्ध है?

- Ans
- 1. तांबा
 - 2. कोयला
 - 3. सोना
 - 4. पेट्रोलियम

Question ID : 264330161523

Option 1 ID : 264330633419

Option 2 ID : 264330633420

Option 3 ID : 264330633421

Option 4 ID : 264330633422

Status : Answered

Chosen Option : 3

Q.2 सत्रिय शास्त्रीय नृत्य का संबंध किस राज्य से है ?

- Ans
- 1. मध्यप्रदेश
 - 2. महाराष्ट्र
 - 3. कर्नाटक
 - 4. असम

Question ID : 264330159051

Option 1 ID : 264330623564

Option 2 ID : 264330623565

Option 3 ID : 264330623563

Option 4 ID : 264330623566

Status : Answered

Chosen Option : 4

Q.3 निम्नलिखित में से किस भारतीय संगीतकार का संबंध तबले से है?

- Ans
- 1. जाकिर हुसैन
 - 2. पंडित रविशंकर
 - 3. इलैयाराजा
 - 4. उस्ताद बिस्मिल्लाह खान

Question ID : 264330160976

Option 1 ID : 264330631236

Option 2 ID : 264330631237

Option 3 ID : 264330631238

Option 4 ID : 264330631235

Status : Answered

Chosen Option : 1

Q.4 _____ आत्मकथा लिखने वाली पहली भारतीय महिला थीं और बंगाली में लिखने वाली भी पहली महिला थीं। उनकी पुस्तक का शीर्षक 'आमार जीवन (Aamar Jiban)' था, जो 1876 में प्रकाशित हुई थी।

- Ans
- 1. मणिकुंतला सेन
 - 2. सरला देवी चौधुरानी
 - 3. शांतिसुधा घोष
 - 4. राससुंदरी देवी

Question ID : 264330161927

Option 1 ID : 264330635038

Option 2 ID : 264330635035

Option 3 ID : 264330635036

Option 4 ID : 264330635037

Status : Answered

Chosen Option : 3

Q.5 'हिंदू महाकाव्य 'महाभारत' का एक प्रस्तुतीकरण, 'द पैलेस ऑफ इल्यूजन्स (The Palace of Illusions)', निम्नलिखित में से किस उपन्यासकार द्वारा लिखा गया था?

- Ans
- 1. इंदु सुंदरेसन
 - 2. देवी यशोधरन
 - 3. प्रतिभा राय
 - 4. चित्रा बनर्जी दिवाकरुनि

Question ID : 264330161761

Option 1 ID : 264330634372

Option 2 ID : 264330634373

Option 3 ID : 264330634371

Option 4 ID : 264330634374

Status : Answered

Chosen Option : 3

Q.6 86वें संवैधानिक संशोधन अधिनियम, 2002 द्वारा निम्नलिखित में से कौन-सा मौलिक कर्तव्य भारतीय संविधान में जोड़ा गया था?

- Ans
- 1. जीवित जीवों के लिए दया भाव रखते हुए प्राकृतिक पर्यावरण जिसके अंतर्गत वन, झील, नदी और वन्यजीव आते हैं, की रक्षा और संवर्द्धन करना
 - 2. छः से चौदह वर्ष की आयु के बीच के अपने बच्चे या, स्थिति अनुसार, प्रतिपाल्य को शिक्षा के अवसर प्रदान करना
 - 3. संविधान का पालन करना और उसके आदर्शों, संस्थाओं, राष्ट्रीय ध्वज और राष्ट्रीय गान का आदर करना।
 - 4. स्वतंत्रता के लिए हमारे राष्ट्रीय आंदोलन को प्रेरित करने वाले उच्च आदेशों को हृदय में संजोए रखना और उनका पालन करना

Question ID : 264330162247

Option 1 ID : 264330636318

Option 2 ID : 264330636317

Option 3 ID : 264330636315

Option 4 ID : 264330636316

Status : Answered

Chosen Option : 2

Q.7 शैल कार्यांतरण के दौरान निम्नलिखित में से कौन-सी चट्टानें बनती हैं?

- Ans
- 1. बेसाल्ट (Basalt)
 - 2. पिंडशीला (Conglomerate)
 - 3. बालुकाश्म (Sandstone)
 - 4. स्लेट (Slate)

Question ID : 264330157829

Option 1 ID : 264330618676

Option 2 ID : 264330618678

Option 3 ID : 264330618677

Option 4 ID : 264330618675

Status : Answered

Chosen Option : 4

Q.8 जी. कृष्णकुमार (G Krishnakumar) को 2023 में निम्नलिखित में से किसका अध्यक्ष नियुक्त किया गया था?

- Ans
- 1. इंडियन ऑयल कॉर्पोरेशन लिमिटेड
 - 2. भारत पेट्रोलियम कॉर्पोरेशन लिमिटेड
 - 3. हिंदुस्तान पेट्रोलियम कॉर्पोरेशन लिमिटेड
 - 4. तेल और प्राकृतिक गैस निगम लिमिटेड

Question ID : 264330158349
Option 1 ID : 264330620758
Option 2 ID : 264330620756
Option 3 ID : 264330620757
Option 4 ID : 264330620755
Status : Answered
Chosen Option : 1

Q.9 यूपीएससी (UPSC) का पूरा नाम क्या है?

- Ans
- 1. यूनियन पब्लिक सर्विस कमिशन (Union Public Service Commission)
 - 2. यूनियन प्राइवेट सर्विस कमेटी (Union Private Service Committee)
 - 3. यूनाइटेड पावर एंड सिक्योरिटी कमिशन (United Power & Security Commission)
 - 4. यूनाइटेड पब्लिक सिक्योरिटी कमिशन (United Public Security Commission)

Question ID : 264330159909
Option 1 ID : 264330626985
Option 2 ID : 264330626984
Option 3 ID : 264330626986
Option 4 ID : 264330626983
Status : Answered
Chosen Option : 1

Q.10 नीति आयोग (NITI Aayog) की पहली बहुआयामी गरीबी सूचकांक (MPI) 2021 रिपोर्ट के अनुसार, भारत में कौन-सा राज्य पहले स्थान पर है?

- Ans
- 1. छत्तीसगढ़
 - 2. उत्तर प्रदेश
 - 3. झारखंड
 - 4. बिहार

Question ID : 264330166019
Option 1 ID : 264330651154
Option 2 ID : 264330651153
Option 3 ID : 264330651152
Option 4 ID : 264330651151
Status : Answered
Chosen Option : 4

Q.11 विवेकानन्द रॉक मेमोरियल कहां स्थित है?

- Ans
- 1. पोर्ट ब्लेयर
 - 2. चेन्नई
 - 3. विशाखापत्तनम
 - 4. कन्याकुमारी

Question ID : 264330160776
Option 1 ID : 264330630437
Option 2 ID : 264330630435
Option 3 ID : 264330630438
Option 4 ID : 264330630436
Status : Answered
Chosen Option : 3

Q.12 भारत की जनगणना 2011 के अनुसार बिहार में जनसंख्या घनत्व कितना दर्ज किया गया था?

- Ans
- 1. 980 व्यक्ति प्रति वर्ग किमी
 - 2. 1320 व्यक्ति प्रति वर्ग किमी
 - 3. 1050 व्यक्ति प्रति वर्ग किमी
 - 4. 1106 व्यक्ति प्रति वर्ग किमी

Question ID : 264330161551
Option 1 ID : 264330633534
Option 2 ID : 264330633531
Option 3 ID : 264330633533
Option 4 ID : 264330633532
Status : Answered
Chosen Option : 4

Q.13 कौन-सा घाटा सरकार की ऋण-ग्रहण आवश्यकताओं को दर्शाता है?

- Ans
- 1. राजकोषीय घाटा
 - 2. पूंजीगत घाटा
 - 3. प्राथमिक घाटा
 - 4. राजस्व घाटा

Question ID : 264330161582
Option 1 ID : 264330633658
Option 2 ID : 264330633657
Option 3 ID : 264330633655
Option 4 ID : 264330633656
Status : Answered
Chosen Option : 4

Q.14 मानव शरीर द्वारा कार्बोहाइड्रेट का उपयोग _____ के रूप में किया जाता है।

- Ans
- 1. अमीनो अम्ल
 - 2. फाइबर
 - 3. न्यूक्लियोटाइड
 - 4. ग्लूकोज

Question ID : 264330157808
Option 1 ID : 264330618593
Option 2 ID : 264330618591
Option 3 ID : 264330618594
Option 4 ID : 264330618592
Status : Answered
Chosen Option : 2

Q.15 तलवारबाजी (Fencing) में, दो तलवारबाजों के बीच प्रतियोगिता को क्या कहा जाता है?

- Ans 1. बौट (bout)
 2. पारी (parry)
 3. रिपोस्ट (riposte)
 4. रीमाईस (remise)

Question ID : 264330161162
Option 1 ID : 264330631982
Option 2 ID : 264330631979
Option 3 ID : 264330631980
Option 4 ID : 264330631981
Status : Answered
Chosen Option : 3

Q.16 दिसंबर 2022 में पीटी उषा को किस संघ का अध्यक्ष चुना गया?

- Ans 1. हरियाणा ओलिंपिक संघ
 2. भारतीय ओलिंपिक संघ
 3. भारतीय राष्ट्रीय राइफल संघ
 4. भारतीय बैडमिंटन संघ

Question ID : 264330158370
Option 1 ID : 264330620841
Option 2 ID : 264330620842
Option 3 ID : 264330620840
Option 4 ID : 264330620839
Status : Answered
Chosen Option : 2

Q.17 निम्नलिखित में से कौन-सा मुद्रा का कार्य नहीं है?

- Ans 1. विनिमय का माध्यम
 2. संचय मूल्य
 3. वस्तु विनिमय प्रणाली
 4. लेखा की इकाई

Question ID : 264330157298
Option 1 ID : 264330616555
Option 2 ID : 264330616556
Option 3 ID : 264330616558
Option 4 ID : 264330616557
Status : Answered
Chosen Option : 3

Q.18 भारत सरकार ने राष्ट्रीय खेल आयोजनों में उत्कृष्ट उपलब्धि को मान्यता देने के लिए किस वर्ष अर्जुन पुरस्कार देने की शुरुआत की थी?

- Ans 1. 1962
 2. 1964
 3. 1961
 4. 1963

Question ID : 264330158236
Option 1 ID : 264330620303
Option 2 ID : 264330620306
Option 3 ID : 264330620304
Option 4 ID : 264330620305
Status : Answered
Chosen Option : 4

Q.19 भारतीय नाट्य के निम्नलिखित प्रदर्शनों का मिलान कीजिए, जिन्हें विविध घटकों के माध्यम से प्रस्तुत किया गया है।

- 1) आंगिक (a) वेशभूषा और श्रृंगार
- 2) वाचिक (b) मानसिक या मनोवैज्ञानिक अवस्थाओं का चित्रण
- 3) आहार्य (c) बोले गए शब्द
- 4) सात्विक (d) हावभाव और अन्य शारीरिक गतिविधियां

Ans ✓ 1. 1-d, 2-c, 3-a, 4-b

✗ 2. 1-c, 2-b, 3-d, 4-a

✗ 3. 1-a, 2-b, 3-d, 4-c

✗ 4. 1-c, 2-a, 3-b, 4-d

Question ID : 264330159048

Option 1 ID : 264330623554

Option 2 ID : 264330623551

Option 3 ID : 264330623553

Option 4 ID : 264330623552

Status : Answered

Chosen Option : 1

Q.20 इन सूचीबद्ध भौतिक राशियों में से सदिश राशि की पहचान कीजिए?

Ans ✗ 1. घनत्व

✗ 2. द्रव्यमान

✗ 3. ऊर्जा

✓ 4. गुरुत्वाकर्षण तीव्रता

Question ID : 264330157782

Option 1 ID : 264330618487

Option 2 ID : 264330618488

Option 3 ID : 264330618490

Option 4 ID : 264330618489

Status : Answered

Chosen Option : 4

Q.21 किस अधिनियम के तहत भारत पर ब्रिटिश साम्राज्य का शासन स्थापित किया गया था?

Ans ✗ 1. भारत सरकार अधिनियम 1833 (Government of India Act 1833)

✗ 2. 1773 का रेगुलेटिंग एक्ट (Regulating Act of 1773)

✗ 3. 1813 का चार्टर एक्ट (Charter Act of 1813)

✓ 4. भारत सरकार अधिनियम 1858 (Government of India Act 1858)

Question ID : 264330162319

Option 1 ID : 264330636605

Option 2 ID : 264330636604

Option 3 ID : 264330636603

Option 4 ID : 264330636606

Status : Answered

Chosen Option : 2

Q.22 एन राजम (N Rajam) कौन-से संगीत वाद्ययंत्र के वादक हैं?

- Ans
- 1. संतूर
 - 2. गिटार
 - 3. सितार
 - 4. वायलिन

Question ID : 264330155465
Option 1 ID : 264330609265
Option 2 ID : 264330609266
Option 3 ID : 264330609263
Option 4 ID : 264330609264
Status : Answered
Chosen Option : 4

Q.23 'अटला ताड़ी (Atla Taddi)', विवाहित और अविवाहित महिलाओं द्वारा क्रमशः लंबे और सुखी वैवाहिक जीवन और एक उपयुक्त वर के लिए देवी गौरी का आशीर्वाद पाने के लिए मनाया जाने वाला त्योहार, _____ में मनाया जाता है।

- Ans
- 1. आंध्रप्रदेश
 - 2. छत्तीसगढ़
 - 3. ओडिशा
 - 4. केरल

Question ID : 264330160817
Option 1 ID : 264330630599
Option 2 ID : 264330630601
Option 3 ID : 264330630602
Option 4 ID : 264330630600
Status : Answered
Chosen Option : 1

Q.24 निम्नलिखित में से कौन एक प्रसिद्ध नर्तक और 2000 में 'पद्म विभूषण' प्राप्त करने वाले ओडिशा के पहले व्यक्ति थे?

- Ans
- 1. केलुचरण महापात्र
 - 2. गंगाधर प्रधान
 - 3. मायाधर राऊत
 - 4. प्रभात स्वैन

Question ID : 264330155478
Option 1 ID : 264330609316
Option 2 ID : 264330609317
Option 3 ID : 264330609315
Option 4 ID : 264330609318
Status : Answered
Chosen Option : 1

Q.25 गांधी जी ने किसकी सलाह पर भारत के लोगों को जानने के लिए ब्रिटिश भारत में एक वर्ष तक यात्रा की?

- Ans
- 1. कृष्णशंकर पंड्या
 - 2. मोहम्मद अली जिन्ना
 - 3. श्रीमद राजचन्द्र
 - 4. गोपाल कृष्ण गोखले

Question ID : 264330161744
Option 1 ID : 264330634306
Option 2 ID : 264330634304
Option 3 ID : 264330634305
Option 4 ID : 264330634303
Status : Answered
Chosen Option : 4

Section : English Language and Comprehension

Q.1 Select the most appropriate meaning of the underlined idiom in the given sentence.

Today's question paper felt like a cakewalk.

- Ans
- 1. Very tasty
 - 2. Very difficult
 - 3. Very sweet
 - 4. Very easy

Question ID : 264330152878
Option 1 ID : 264330599103
Option 2 ID : 264330599104
Option 3 ID : 264330599106
Option 4 ID : 264330599105
Status : Answered
Chosen Option : 4

Q.2 Select the most appropriate option that can substitute the underlined segment in the given sentence.

He push the bushes aside and went a little farther.

- Ans
- 1. pushed with bush
 - 2. pushing the bush
 - 3. pushed the bushes
 - 4. pushes in bush

Question ID : 264330153471
Option 1 ID : 264330601399
Option 2 ID : 264330601400
Option 3 ID : 264330601402
Option 4 ID : 264330601401
Status : Answered
Chosen Option : 3

Q.3 Select the most appropriate option to fill in the blank.
Dr. APJ Abdul Kalam was a great man with a high level of _____.

- Ans** 1. intellect
 2. wise boredom
 3. clever fatigue
 4. intelligent humour

Question ID : 264330153508
Option 1 ID : 264330601544
Option 2 ID : 264330601545
Option 3 ID : 264330601546
Option 4 ID : 264330601543
Status : Answered
Chosen Option : 4

Q.4 Select the word which means the same as the group of words given.
One who is all powerful.

- Ans** 1. Omniscient
 2. Optimist
 3. Omnipotent
 4. Omnipresent

Question ID : 264330152571
Option 1 ID : 264330597889
Option 2 ID : 264330597890
Option 3 ID : 264330597888
Option 4 ID : 264330597887
Status : Answered
Chosen Option : 3

Q.5 Select the most appropriate synonym of the underlined word.
The girl was manacled and locked in the room.

- Ans** 1. fettered
 2. unfastened
 3. unbinded
 4. liberated

Question ID : 264330153521
Option 1 ID : 264330601598
Option 2 ID : 264330601597
Option 3 ID : 264330601596
Option 4 ID : 264330601595
Status : Answered
Chosen Option : 1

Q.6 Select the most appropriate synonym of the given word.
Plunge

- Ans**
- 1. Rush
 - 2. Transgress
 - 3. Fly
 - 4. Dive

Question ID : 264330151877
Option 1 ID : 264330595130
Option 2 ID : 264330595129
Option 3 ID : 264330595127
Option 4 ID : 264330595128
Status : Answered
Chosen Option : 2

Q.7 Select the option that can be used as a one-word substitute for the given group of words.

Copying someone else's work and trying to submit it as your own

- Ans**
- 1. Extempore
 - 2. Polygamy
 - 3. Plagiarism
 - 4. Preamble

Question ID : 264330152771
Option 1 ID : 264330598675
Option 2 ID : 264330598678
Option 3 ID : 264330598676
Option 4 ID : 264330598677
Status : Answered
Chosen Option : 3

Q.8 Parts of the following sentence have been given as options. Select the option that contains an error.

Ravi will go to the England.

- Ans**
- 1. the England
 - 2. Ravi
 - 3. will
 - 4. go to

Question ID : 264330152792
Option 1 ID : 264330598762
Option 2 ID : 264330598759
Option 3 ID : 264330598760
Option 4 ID : 264330598761
Status : Answered
Chosen Option : 4

Q.9 Parts of the following sentence have been given as options. Select the option that contains an error.

When Nisha will have finished her task?

- Ans
- 1. her task
 - 2. have
 - 3. finished
 - 4. When Nisha will

Question ID : 264330152817
Option 1 ID : 264330598862
Option 2 ID : 264330598860
Option 3 ID : 264330598861
Option 4 ID : 264330598859
Status : Answered
Chosen Option : 2

Q.10 Select the most appropriate ANTONYM of the underlined word.
Addiction of drugs proved detrimental for his health.

- Ans
- 1. Impartial
 - 2. Beneficial
 - 3. Potential
 - 4. Differential

Question ID : 264330151819
Option 1 ID : 264330594906
Option 2 ID : 264330594904
Option 3 ID : 264330594905
Option 4 ID : 264330594903
Status : Answered
Chosen Option : 2

Q.11 Select the most appropriate option that can substitute the underlined segment in the given sentence.

Ramesh is owning a beautiful house in Noida.

- Ans
- 1. was owned
 - 2. owns
 - 3. did owned
 - 4. has owning

Question ID : 264330152710
Option 1 ID : 264330598440
Option 2 ID : 264330598439
Option 3 ID : 264330598442
Option 4 ID : 264330598441
Status : Answered
Chosen Option : 2

Q.12 Select the **INCORRECTLY** spelt word in the given sentence.
All the members of my family are planning to visit Jammu and Kashmir this Novembur.

- Ans
- 1. Planning
 - 2. Novembur
 - 3. Visit
 - 4. Members

Question ID : 264330153300
Option 1 ID : 264330600756
Option 2 ID : 264330600755
Option 3 ID : 264330600758
Option 4 ID : 264330600757
Status : Answered
Chosen Option : 2

Q.13 The following sentence contains some errors. Select the option that correctly rectifies the error.
The forses that generate conditions conduiive to crime and riots are stronger in urban communities than in rurral areas.

- Ans
- 1. The forse that generate conditions conduiive to crime and riots are stronger in urban communities than in rurral areas.
 - 2. The forces that generate conditions conduive to crime and riots are stronger in urban communities than in rural areas.
 - 3. The forces that genereta conditions conduieve to crime and riotts are stronger in urban communities than in rural areas.
 - 4. The forces that genarete conditions conduiive to crime and riots are stronger in urban communities than in ruraal areas.

Question ID : 264330152693
Option 1 ID : 264330598375
Option 2 ID : 264330598377
Option 3 ID : 264330598378
Option 4 ID : 264330598376
Status : Answered
Chosen Option : 2

Q.14 The following sentence has been split into four segments. Identify the segment that contains an error.
My father told me / that in his childhood / he was walking / to school every day.

- Ans
- 1. he was walking
 - 2. My father told me
 - 3. that in his childhood
 - 4. to school every day

Question ID : 264330155325
Option 1 ID : 264330608741
Option 2 ID : 264330608739
Option 3 ID : 264330608740
Option 4 ID : 264330608742
Status : Answered
Chosen Option : 3

Q.15 Select the most appropriate meaning of the given idiom.
Beauty of it

- Ans
- 1. Cause for dispute
 - 2. Make things worse
 - 3. Quite ordinary
 - 4. Good points

Question ID : 264330151830
Option 1 ID : 264330594948
Option 2 ID : 264330594950
Option 3 ID : 264330594947
Option 4 ID : 264330594949
Status : Answered
Chosen Option : 4

Q.16 Select the most appropriate option that can rectify the underlined segment in the given sentence. If there is no need to rectify it, select 'no rectification needed'.

I used a variety of sources to find the more cheap flight.

- Ans
- 1. no rectification needed
 - 2. cheapest
 - 3. cheaper
 - 4. cheap

Question ID : 264330153462
Option 1 ID : 264330601366
Option 2 ID : 264330601365
Option 3 ID : 264330601363
Option 4 ID : 264330601364
Status : Answered
Chosen Option : 2

Q.17 Select the INCORRECTLY spelt word.

- Ans
- 1. Weather
 - 2. Tomatos
 - 3. Vehicle
 - 4. Professor

Question ID : 264330153153
Option 1 ID : 264330600174
Option 2 ID : 264330600172
Option 3 ID : 264330600171
Option 4 ID : 264330600173
Status : Answered
Chosen Option : 2

Q.18 Select the most appropriate option that can substitute the underlined segment in the given sentence.

I found my teacher's points casual and informal in the group discussion.

- Ans
- 1. foot the bill
 - 2. fair and square
 - 3. flesh and blood
 - 4. free and easy

Question ID : 264330144124
Option 1 ID : 264330564759
Option 2 ID : 264330564762
Option 3 ID : 264330564761
Option 4 ID : 264330564760
Status : Answered
Chosen Option : 2

Q.19 Select the most appropriate meaning of the underlined idiom.
We prefer going to movies once in a blue moon.

- Ans
- 1. Very amazingly
 - 2. Very often
 - 3. Very diligently
 - 4. Very rarely

Question ID : 264330151833
Option 1 ID : 264330594962
Option 2 ID : 264330594959
Option 3 ID : 264330594961
Option 4 ID : 264330594960
Status : Answered
Chosen Option : 4

Q.20 Select the most appropriate response in the given situation of the eve of a battle to fill in the blank.

The commander: "Honourable Emperor, all the troops have lined up for the battle and are awaiting your orders." Emperor Chandragupta Maurya:
"_____."

- Ans
- 1. We will march at dawn.
 - 2. You should learn how to talk to an emperor.
 - 3. We are ready for the pilgrimage.
 - 4. We will be playing cards.

Question ID : 264330152642
Option 1 ID : 264330598173
Option 2 ID : 264330598174
Option 3 ID : 264330598172
Option 4 ID : 264330598171
Status : Answered
Chosen Option : 1

Comprehension:

In the following passage some words have been deleted. Fill in the blanks with the help of the alternatives given. Select the most appropriate option for each number.

Modern football (1)_____in Britain in the 19th century. Since before medieval times, 'folk football' games had been played in towns and villages according to local customs and with a (2)_____of rules. Industrialisation and (3)_____, which reduced the amount of leisure time and space available to the working class, combined with a history of legal prohibitions against particularly (4)_____and destructive forms of folk football to undermine the game's status from the early 19th century onward. However, football was taken up as a winter game between residence houses at public (independent) schools such as Winchester, Charterhouse and Eton. Each school had its own rules; some allowed limited handling of the ball and others did not. The (5)_____in rules made it difficult for public schoolboys entering university to continue playing except with former schoolmates.

SubQuestion No : 21

Q.21 Select the most appropriate option to fill in blank no. 1.

- Ans 1. terminated
 2. originated
 3. culminated
 4. fragmented

Question ID : 264330153430

Option 1 ID : 264330601245

Option 2 ID : 264330601246

Option 3 ID : 264330601244

Option 4 ID : 264330601243

Status : Answered

Chosen Option : 2

Comprehension:

In the following passage some words have been deleted. Fill in the blanks with the help of the alternatives given. Select the most appropriate option for each number.

Modern football (1)_____in Britain in the 19th century. Since before medieval times, 'folk football' games had been played in towns and villages according to local customs and with a (2)_____of rules. Industrialisation and (3)_____, which reduced the amount of leisure time and space available to the working class, combined with a history of legal prohibitions against particularly (4)_____and destructive forms of folk football to undermine the game's status from the early 19th century onward. However, football was taken up as a winter game between residence houses at public (independent) schools such as Winchester, Charterhouse and Eton. Each school had its own rules; some allowed limited handling of the ball and others did not. The (5)_____in rules made it difficult for public schoolboys entering university to continue playing except with former schoolmates.

SubQuestion No : 22

Q.22 Select the most appropriate option to fill in blank no. 2.

- Ans 1. maximum
 2. minimum
 3. variance
 4. optimum

Question ID : 264330153431

Option 1 ID : 264330601247

Option 2 ID : 264330601248

Option 3 ID : 264330601250

Option 4 ID : 264330601249

Status : Answered

Chosen Option : 2

Comprehension:

In the following passage some words have been deleted. Fill in the blanks with the help of the alternatives given. Select the most appropriate option for each number.

Modern football (1)_____in Britain in the 19th century. Since before medieval times, 'folk football' games had been played in towns and villages according to local customs and with a (2)_____of rules. Industrialisation and (3)_____, which reduced the amount of leisure time and space available to the working class, combined with a history of legal prohibitions against particularly (4)_____and destructive forms of folk football to undermine the game's status from the early 19th century onward. However, football was taken up as a winter game between residence houses at public (independent) schools such as Winchester, Charterhouse and Eton. Each school had its own rules; some allowed limited handling of the ball and others did not. The (5)_____in rules made it difficult for public schoolboys entering university to continue playing except with former schoolmates.

SubQuestion No : 23

Q.23 Select the most appropriate option to fill in blank no. 3.

Ans 1. standardisation

2. normalisation

3. implementation

4. urbanisation

Question ID : 264330153432

Option 1 ID : 264330601253

Option 2 ID : 264330601252

Option 3 ID : 264330601254

Option 4 ID : 264330601251

Status : Answered

Chosen Option : 4

Comprehension:

In the following passage some words have been deleted. Fill in the blanks with the help of the alternatives given. Select the most appropriate option for each number.

Modern football (1)_____in Britain in the 19th century. Since before medieval times, 'folk football' games had been played in towns and villages according to local customs and with a (2)_____of rules. Industrialisation and (3)_____, which reduced the amount of leisure time and space available to the working class, combined with a history of legal prohibitions against particularly (4)_____and destructive forms of folk football to undermine the game's status from the early 19th century onward. However, football was taken up as a winter game between residence houses at public (independent) schools such as Winchester, Charterhouse and Eton. Each school had its own rules; some allowed limited handling of the ball and others did not. The (5)_____in rules made it difficult for public schoolboys entering university to continue playing except with former schoolmates.

SubQuestion No : 24

Q.24 Select the most appropriate option to fill in blank no. 4.

Ans 1. undercurrents

2. traces

3. calm

4. violent

Question ID : 264330153433

Option 1 ID : 264330601256

Option 2 ID : 264330601258

Option 3 ID : 264330601255

Option 4 ID : 264330601257

Status : Answered

Chosen Option : 4

Comprehension:

In the following passage some words have been deleted. Fill in the blanks with the help of the alternatives given. Select the most appropriate option for each number.

Modern football (1)_____in Britain in the 19th century. Since before medieval times, 'folk football' games had been played in towns and villages according to local customs and with a (2)_____of rules. Industrialisation and (3)_____, which reduced the amount of leisure time and space available to the working class, combined with a history of legal prohibitions against particularly (4)_____and destructive forms of folk football to undermine the game's status from the early 19th century onward. However, football was taken up as a winter game between residence houses at public (independent) schools such as Winchester, Charterhouse and Eton. Each school had its own rules; some allowed limited handling of the ball and others did not. The (5)_____in rules made it difficult for public schoolboys entering university to continue playing except with former schoolmates.

SubQuestion No : 25

Q.25 Select the most appropriate option to fill in blank no. 5.

- Ans 1. grouse
 2. variance
 3. grunt
 4. control

Question ID : 264330153434

Option 1 ID : 264330601259

Option 2 ID : 264330601261

Option 3 ID : 264330601262

Option 4 ID : 264330601260

Status : Answered

Chosen Option : 2

KD Job Updates

Multi Tasking Non Technical Staff and Havaladar CBIC and CBN Examination 2023

Roll Number	KD Job Updates
Candidate Name	KD Job Updates
Venue Name	Maharishi Arvind Institute of Engineering and Technology
Exam Date	14/09/2023
Exam Time	12:30 PM - 2:30 PM
Subject	MTS Non Tech Havaladar CBIC and CBN Examination 2023

Section : Numerical and Mathematical Ability

Q.1 स को क्रमशः हिंदी, अंग्रेजी, गणित, भौतिकी और रसायन विज्ञान में 65, 74, 62, 68 और 68 अंक मिलते हैं। गणित, हिंदी और अंग्रेजी में उसके औसत अंक गणित, भौतिकी और रसायन विज्ञान में उसके औसत अंकों से _____ अधिक हैं।

- Ans
- ✓ 1. 1
 - ✗ 2. 0.5
 - ✗ 3. 1.67
 - ✗ 4. 1.33

Question ID : 264330153798
Option 1 ID : 264330602656
Option 2 ID : 264330602655
Option 3 ID : 264330602658
Option 4 ID : 264330602657
Status : Answered
Chosen Option : 1

Q.2 यदि $A : B = 2 : 1$ और $B : C = 1 : 3$, तो $C : A$ बराबर _____ होगा।

- Ans
- ✓ 1. 3 : 2
 - ✗ 2. 1 : 3
 - ✗ 3. 3 : 1
 - ✗ 4. 2 : 3

Question ID : 264330153873
Option 1 ID : 264330602957
Option 2 ID : 264330602958
Option 3 ID : 264330602956
Option 4 ID : 264330602955
Status : Answered
Chosen Option : 1

Q.3 जब ब्याज वार्षिक रूप से संयोजित किया जाता है, तो एक बैंक खाते में धनराशि 7 वर्ष में दोगुनी हो जाती है। इस धनराशि को बैंक में 8 गुना करने के लिए कितने वर्ष का समय लगेगा?

- Ans**
- ✓ 1. 21
 - ✗ 2. 35
 - ✗ 3. 28
 - ✗ 4. 14

Question ID : 264330156284
Option 1 ID : 264330612537
Option 2 ID : 264330612538
Option 3 ID : 264330612536
Option 4 ID : 264330612535
Status : Answered
Chosen Option : 3

Q.4 एक कार 50 km/h की चाल से 200 km की यात्रा करती है और फिर 80 km/h की चाल से 200 km की यात्रा और करती है। पूरी यात्रा में कार की औसत चाल क्या है? (दशमलव के दो स्थानों तक सन्निकटित)

- Ans**
- ✗ 1. 60.24 km/h
 - ✓ 2. 61.54 km/h
 - ✗ 3. 62.53 km/h
 - ✗ 4. 59.75 km/h

Question ID : 264330156258
Option 1 ID : 264330612432
Option 2 ID : 264330612433
Option 3 ID : 264330612434
Option 4 ID : 264330612431
Status : Answered
Chosen Option : 2

Q.5 प्रवीण ज़ोया को 10% की हानि पर एक स्टडी टेबल बेचना है, और ज़ोया उसी स्टडी टेबल को आदर्श को 25% के लाभ पर बेचती है। यदि आदर्श ने स्टडी टेबल ₹2,250 में खरीदी, तो प्रवीण के लिए स्टडी टेबल का मूल्य (₹ में) क्या था?

- Ans**
- ✗ 1. 1,900
 - ✗ 2. 2,100
 - ✓ 3. 2,000
 - ✗ 4. 1,800

Question ID : 264330155711
Option 1 ID : 264330610248
Option 2 ID : 264330610250
Option 3 ID : 264330610249
Option 4 ID : 264330610247
Status : Answered
Chosen Option : 3

Q.6 एक चोर ने एक पुलिसकर्मी को 300 m की दूरी से देखकर 12 km/h की चाल से दौड़ना शुरू किया। पुलिसकर्मी ने 13 km/h की चाल से उसका पीछा किया और चोर को पकड़ लिया। चोर द्वारा तय की गई दूरी कितनी है?

- Ans**
- 1. 4800 m
 - 2. 1800 m
 - 3. 7200 m
 - 4. 3600 m

Question ID : 264330154056

Option 1 ID : 264330603690

Option 2 ID : 264330603687

Option 3 ID : 264330603688

Option 4 ID : 264330603689

Status : Answered

Chosen Option : 4

Q.7 सुरेश अपनी आय का 20% बचा सकता है। लेकिन 4 साल बाद, जब उसकी आय में 40% की वृद्धि होती है तब भी वह पहले जितनी ही धनराशि बचा सका। उसके व्यय में हुई प्रतिशत वृद्धि कितनी है?

- Ans**
- 1. 50%
 - 2. 22%
 - 3. 45%
 - 4. 23%

Question ID : 264330157325

Option 1 ID : 264330616664

Option 2 ID : 264330616666

Option 3 ID : 264330616665

Option 4 ID : 264330616663

Status : Answered

Chosen Option : 1

Q.8 एक त्रिभुज की भुजाएँ 5 cm, 12 cm और 13 cm हैं। तीनों भुजाओं के मध्य बिंदु को जोड़ने से बने त्रिभुज का क्षेत्रफल क्या होगा?

- Ans**
- 1. $13\frac{1}{2} \text{ cm}^2$
 - 2. 15 cm^2
 - 3. $7\frac{1}{2} \text{ cm}^2$
 - 4. $19\frac{1}{2} \text{ cm}^2$

Question ID : 264330156501

Option 1 ID : 264330613394

Option 2 ID : 264330613391

Option 3 ID : 264330613392

Option 4 ID : 264330613393

Status : Answered

Chosen Option : 2

Q.9 A, B और C अलग-अलग काम करते हुए किसी काम को क्रमशः 11 दिन, 20 दिन और 55 दिन में पूरा कर सकते हैं। यदि वे साथ मिलकर काम करते हैं, तो काम को पूरा करने में कितने दिन का समय लगेगा?

Ans

✓ 1. $6\frac{2}{7}$ दिन

✗ 2. $\frac{1}{7}$ दिन

✗ 3. $4\frac{1}{7}$ दिन

✗ 4. $5\frac{1}{7}$ दिन

Question ID : 264330156532

Option 1 ID : 264330613516

Option 2 ID : 264330613518

Option 3 ID : 264330613517

Option 4 ID : 264330613515

Status : Answered

Chosen Option : 1

Q.10 दी गई तालिका का अध्ययन कीजिए और नीचे दिए गए प्रश्न का उत्तर दीजिए।

तालिका में पांच अलग-अलग विषयों में पांच छात्रों द्वारा प्राप्त अंकों का प्रतिशत दर्शाया गया है।

छात्र	विषय (अधिकतम अंक = 100)				
	गणित	भौतिकी	रसायन शास्त्र	अंग्रेजी	हिंदी
राहुल	60	80	75	70	80
विजय	80	90	80	75	85
नानी	70	80	70	70	80
गणेश	80	75	60	60	65
रोहित	70	70	50	50	75

गणित में सभी पांच छात्रों द्वारा प्राप्त औसत अंक कितने हैं?

Ans ✓ 1. 72

✗ 2. 65

✗ 3. 75

✗ 4. 70

Question ID : 264330157333

Option 1 ID : 264330616695

Option 2 ID : 264330616697

Option 3 ID : 264330616696

Option 4 ID : 264330616698

Status : Answered

Chosen Option : 1

Q.11 यदि एक व्यक्ति 12 km/hr के स्थान पर 18 km/hr की चाल से चलता, तो वह 24 km अधिक चलता है। उसके द्वारा तय की गई वास्तविक दूरी कितनी है?

- Ans
- 1. 52 km
 - 2. 48 km
 - 3. 60 km
 - 4. 55 km

Question ID : 264330156289
Option 1 ID : 264330612557
Option 2 ID : 264330612556
Option 3 ID : 264330612555
Option 4 ID : 264330612558
Status : Answered
Chosen Option : 2

Q.12 साधारण ब्याज पर ₹800 की धनराशि 3 वर्ष में ₹1,040 हो जाती है। यदि ब्याज दर में 3% की वृद्धि की जाती है, तो धनराशि ज्ञात कीजिए।

- Ans
- 1. ₹1,102
 - 2. ₹1,112
 - 3. ₹1,212
 - 4. ₹1,012

Question ID : 264330156002
Option 1 ID : 264330611407
Option 2 ID : 264330611410
Option 3 ID : 264330611408
Option 4 ID : 264330611409
Status : Answered
Chosen Option : 2

Q.13 मोहित, नीतू और सोमा एक काम को क्रमशः 5 दिन, 6 दिन और 8 दिन में पूरा कर सकते हैं। यदि वे बारी-बारी से एक दिन छोड़कर काम करते हैं और मोहित पहले दिन काम शुरू करता है, फिर नीतू दूसरे दिन, फिर सोमा तीसरे दिन, फिर मोहित चौथे दिन इसी प्रकार आगे काम करते रहते हैं, तो काम कितने दिनों में पूरा हो जाएगा?

- Ans
- 1. $4\frac{7}{15}$
 - 2. $5\frac{7}{12}$
 - 3. $7\frac{1}{60}$
 - 4. $6\frac{1}{12}$

Question ID : 264330156196
Option 1 ID : 264330612183
Option 2 ID : 264330612185
Option 3 ID : 264330612186
Option 4 ID : 264330612184
Status : Answered
Chosen Option : 4

Q.14 एक वस्तु को ₹5,280 में बेचने पर गीता को 12% की हानि होती है। 12% का लाभ अर्जित करने के लिए उसे इसे किस मूल्य पर बेचना चाहिए?

- Ans
- 1. ₹5,780
 - 2. ₹6,720
 - 3. ₹7,150
 - 4. ₹6,820

Question ID : 264330159022

Option 1 ID : 264330623450

Option 2 ID : 264330623449

Option 3 ID : 264330623448

Option 4 ID : 264330623447

Status : Answered

Chosen Option : 2

Q.15 एक टी-शर्ट का मूल्य ₹450 है और एक जींस का मूल्य ₹1,650 है। यदि आप तीन टी-शर्ट और दो जींस खरीदते हैं, तो प्रत्येक कपड़े का औसत मूल्य क्या है?

- Ans
- 1. ₹920
 - 2. ₹900
 - 3. ₹910
 - 4. ₹930

Question ID : 264330156255

Option 1 ID : 264330612421

Option 2 ID : 264330612419

Option 3 ID : 264330612420

Option 4 ID : 264330612422

Status : Answered

Chosen Option : 4

Q.16 एक लम्ब वृत्तीय शंकु की ऊंचाई 20 cm है, और इसके आधार का व्यास 30 cm है। लम्ब वृत्तीय शंकु का क्रमशः वक्र पृष्ठीय क्षेत्रफल और कुल पृष्ठीय क्षेत्रफल कितना है?

- Ans
- 1. $450\pi \text{ cm}^2$ और $625\pi \text{ cm}^2$
 - 2. $390\pi \text{ cm}^2$ और $475\pi \text{ cm}^2$
 - 3. $335\pi \text{ cm}^2$ और $525\pi \text{ cm}^2$
 - 4. $375\pi \text{ cm}^2$ और $600\pi \text{ cm}^2$

Question ID : 264330156201

Option 1 ID : 264330612205

Option 2 ID : 264330612203

Option 3 ID : 264330612204

Option 4 ID : 264330612206

Status : Answered

Chosen Option : 4

Q.17 तीन अंकों की वह सबसे छोटी संख्या ज्ञात कीजिए जिसे 5 में जोड़ने पर वह 12, 14 और 18 से पूर्णतः विभाज्य होती है।

- Ans
- 1. 240
 - 2. 225
 - 3. 247
 - 4. 245

Question ID : 264330155985

Option 1 ID : 264330611340

Option 2 ID : 264330611342

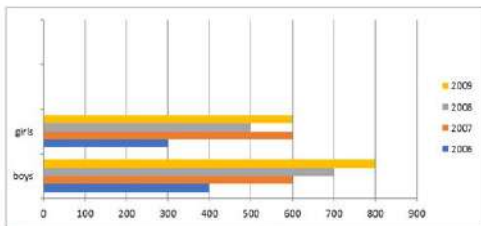
Option 3 ID : 264330611341

Option 4 ID : 264330611339

Status : Answered

Chosen Option : 3

Q.18 निम्नलिखित दंड आलेख में वर्ष 2006-2009 के दौरान एक स्कूल में लड़के और लड़कियों के नामांकन को दर्शाया गया है। दंड आलेख का ध्यानपूर्वक अध्ययन कीजिए और नीचे दिए गए प्रश्न का उत्तर दीजिए।



संदर्भ: Girls - लड़कियाँ, Boys - लड़के

2006 से 2009 के सभी वर्षों में नामांकित लड़के और लड़कियों की कुल संख्या का अनुपात ज्ञात कीजिए।

- Ans
- 1. 5 : 4
 - 2. 5 : 3
 - 3. 3 : 4
 - 4. 3 : 5

Question ID : 264330153857

Option 1 ID : 264330602894

Option 2 ID : 264330602892

Option 3 ID : 264330602891

Option 4 ID : 264330602893

Status : Answered

Chosen Option : 1

Q.19 The weight of a cube varies directly as the product of its volume and its density. The ratio of densities of the materials of the first cube and second cube is 27 : 16. If the weight of the first cube is 4 times the weight of the second cube, then what is the ratio of the edges of the first cube and second cube?

- Ans
- 1. 3 : 2
 - 2. 3 : 4
 - 3. 2 : 3
 - 4. 4 : 3

Question ID : 264330156308

Option 1 ID : 264330612634

Option 2 ID : 264330612632

Option 3 ID : 264330612633

Option 4 ID : 264330612631

Status : Answered

Chosen Option : 2

Q.20 निम्नलिखित दो संख्यात्मक व्यंजकों की तुलना करने पर, हमें ज्ञात होता है कि _____।

$$\left[\left(2\frac{7}{9}\right)^{2\frac{1}{2}}\right]^{\frac{3}{5}} \text{ और } \left[\left(1\frac{2}{3}\right)^5\right]^{\frac{3}{5}}$$

Ans

- ✗ 1. पहला व्यंजक दूसरे से छोटा है
- ✗ 2. पहला व्यंजक दूसरे से बड़ा है
- ✗ 3. दिए गए दोनों व्यंजकों की तुलना नहीं की जा सकती
- ✓ 4. दोनों व्यंजक समान हैं

Question ID : 264330154113

Option 1 ID : 264330603916

Option 2 ID : 264330603915

Option 3 ID : 264330603918

Option 4 ID : 264330603917

Status : Answered

Chosen Option : 4

Section : Reasoning Ability and Problem Solving

KD Job Updates

Q.1 यदि निम्नलिखित आकृति श्रृंखला को जारी रखना हो तो कौन-सी आकृति प्रश्न चिन्ह (?) के स्थान पर आनी चाहिए?

R	C	O	2	E	♡	R	S	
O	♡	E	S	C	R	R	O	2
2	S	♡	E	S	C	O	2	?

Ans

✗ 1.

2	R
E	C
♡	
S	O

✗ 2.

2	E
S	R
O	
C	♡

✗ 3.

2	O
E	C
♡	
S	R

✓ 4.

2	O
E	R
S	
C	♡

Question ID : 264330154755

Option 1 ID : 264330606484

Option 2 ID : 264330606485

Option 3 ID : 264330606486

Option 4 ID : 264330606483

Status : Answered

Chosen Option : 4

Q.2 यदि 3 अक्टूबर 2011 को सोमवार है, तो 4 नवंबर 2021 को सप्ताह का कौन-सा दिन होगा?

Ans

✓ 1. गुरुवार

✗ 2. शुक्रवार

✗ 3. मंगलवार

✗ 4. सोमवार

Question ID : 264330154337

Option 1 ID : 264330604812

Option 2 ID : 264330604813

Option 3 ID : 264330604814

Option 4 ID : 264330604811

Status : Answered

Chosen Option : 1

Q.3 निम्नलिखित संख्या-युग्मों में, पहली संख्या पर कुछ गणितीय संक्रियाएँ करके दूसरी संख्या प्राप्त की जाती है। उस समुच्चय को चुनिए जिसमें संख्याएँ ठीक उसी प्रकार संबंधित हैं जिस प्रकार निम्नलिखित समुच्चयों की संख्याएँ संबंधित हैं।

(ध्यान दें: संख्याओं को उनके घटक अंकों में अलग-अलग किए बिना, पूर्ण संख्याओं पर संक्रियाएँ की जानी चाहिए। उदा. 13 – संख्या 13 पर संक्रियाएँ जैसे 13 को जोड़ना/घटाना/गुणा करना आदि किया जा सकता है। 13 को 1 और 3 में अलग-अलग करने की ओर फिर 1 और 3 पर गणितीय संक्रियाएँ करने की अनुमति नहीं है।)

7, 50

15, 226

- Ans**
- 1. 11, 131
 - 2. 21, 445
 - 3. 14, 162
 - 4. 17, 290

Question ID : 264330151621

Option 1 ID : 264330594111

Option 2 ID : 264330594114

Option 3 ID : 264330594112

Option 4 ID : 264330594113

Status : Answered

Chosen Option : 4

Q.4 एक निश्चित कूट भाषा में, 'DIAL' को '1326' लिखा जाता है और 'IDLE' को '6183' लिखा जाता है। उसी कूट भाषा में 'E' को कैसे लिखा जाएगा?

- Ans**
- 1. 3
 - 2. 8
 - 3. 1
 - 4. 6

Question ID : 264330151695

Option 1 ID : 264330594408

Option 2 ID : 264330594410

Option 3 ID : 264330594407

Option 4 ID : 264330594409

Status : Answered

Chosen Option : 2

Q.5 उस सही विकल्प को चुनिए, जिसे दी गई श्रृंखला के रिक्त स्थानों में इसी क्रम में रखने पर श्रृंखला तार्किक रूप से पूरी हो जाएगी।

B_KPBN_R_OKTB_KVBQK_

- Ans**
- 1. JFIEH
 - 2. SJORN
 - 3. MKBPX
 - 4. MFHID

Question ID : 264330154723

Option 1 ID : 264330606357

Option 2 ID : 264330606358

Option 3 ID : 264330606356

Option 4 ID : 264330606355

Status : Answered

Chosen Option : 3

Q.6 नीचे दिए गए कथनों और निष्कर्षों को ध्यानपूर्वक पढ़िए। आपको मानना है कि दिए गए कथन सत्य हैं चाहे वे समान्यतः ज्ञात तथ्यों से अलग प्रतीत होते हों। आपको निश्चय करना है कि कौन-सा/कौन-से निष्कर्ष तार्किक रूप से दिए गए कथनों के अनुसार है/हैं।

कथन: कुछ स्कूल, बड़े हैं। सभी बड़े, मॉल हैं। कोई मॉल, सस्ता नहीं है।

निष्कर्ष I: सभी बड़े, स्कूल हैं।

निष्कर्ष II: कुछ मॉल, बड़े हैं।

Ans

- ✓ 1. केवल निष्कर्ष (II) कथनों के अनुसार है।
- ✗ 2. केवल निष्कर्ष (I) कथनों के अनुसार है।
- ✗ 3. न तो निष्कर्ष (I) और न ही (II) कथनों के अनुसार है।
- ✗ 4. दोनों निष्कर्ष (I) और (II) कथनों के अनुसार हैं।

Question ID : 264330155895

Option 1 ID : 264330610984

Option 2 ID : 264330610983

Option 3 ID : 264330610985

Option 4 ID : 264330610986

Status : Answered

Chosen Option : 3

KD Job Updates

Q.7 उस विकल्प आकृति को चुनिए जिसमें दी गई आकृति (X) उसके भाग के रूप में निहित है।
(घूर्णन की अनुमति नहीं है)



(X)

Ans

✗ 1.



✗ 2.



✗ 3.



✓ 4.



Question ID : 264330151730

Option 1 ID : 264330594549

Option 2 ID : 264330594548

Option 3 ID : 264330594547

Option 4 ID : 264330594550

Status : Answered

Chosen Option : 4

Q.8 दी गई श्रृंखला में प्रश्न चिह्न '?' के स्थान पर क्या आना चाहिए?

41 43 47 53 61 ?

Ans

✓ 1. 71

✗ 2. 74

✗ 3. 73

✗ 4. 72

Question ID : 264330151541

Option 1 ID : 264330593791

Option 2 ID : 264330593794

Option 3 ID : 264330593793

Option 4 ID : 264330593792

Status : Answered

Chosen Option : 3

Q.9 अंग्रेजी वर्णमाला क्रम के आधार पर दी गई श्रृंखला में प्रश्न चिह्न (?) के स्थान पर क्या आना चाहिए?

HPA, KTD, NXG, QBJ, ?

- Ans
- ✓ 1. TFM
 - ✗ 2. UEM
 - ✗ 3. SFN
 - ✗ 4. SEN

Question ID : 264330155782

Option 1 ID : 264330610534

Option 2 ID : 264330610531

Option 3 ID : 264330610532

Option 4 ID : 264330610533

Status : Answered

Chosen Option : 1

Q.10 OE 13, MC 17 से एक निश्चित प्रकार से संबंधित है। उस प्रकार, FL 16, DJ 20 से संबंधित है। समान तर्क का अनुसरण करते हुए RD 15 निम्नलिखित में से किससे संबंधित है?

- Ans
- ✓ 1. PB 19
 - ✗ 2. QE 18
 - ✗ 3. SF 18
 - ✗ 4. PC 19

Question ID : 264330151676

Option 1 ID : 264330594332

Option 2 ID : 264330594331

Option 3 ID : 264330594334

Option 4 ID : 264330594333

Status : Answered

Chosen Option : 1

Q.11 निम्नलिखित संख्या-युग्मों में, पहली संख्या पर कुछ गणितीय संक्रियाएँ करके दूसरी संख्या प्राप्त की जाती है। उस समुच्चय को चुनिए जिसमें संख्याएँ ठीक उसी प्रकार संबंधित हैं जिस प्रकार निम्नलिखित समुच्चयों की संख्याएँ संबंधित हैं।
(ध्यान दें: संख्याओं को उनके घटक अंकों में अलग-अलग किए बिना, पूर्ण संख्याओं पर संक्रियाएँ की जानी चाहिए। उदा. 13 - संख्या 13 पर संक्रियाएँ जैसे 13 को जोड़ना, घटाना, गुणा करना आदि किया जा सकता है। 13 को 1 और 3 में अलग-अलग करने की ओर फिर 1 और 3 पर गणितीय संक्रियाएँ करने की अनुमति नहीं है।)

3 : 7
5 : 23

- Ans
- ✓ 1. 6 : 34
 - ✗ 2. 4 : 18
 - ✗ 3. 9 : 80
 - ✗ 4. 8 : 64

Question ID : 264330154651

Option 1 ID : 264330606069

Option 2 ID : 264330606070

Option 3 ID : 264330606067

Option 4 ID : 264330606068

Status : Answered

Chosen Option : 1

Q.12 यदि '+' और '-' को आपस में बदल दिया जाए और '×' और '÷' को आपस में बदल दिया जाए तो निम्नलिखित समीकरण में '?' के स्थान पर क्या आएगा?
 $12 - 6 + 3 + 3 \times 7 = ?$

- Ans
- 1. 33
 - 2. 66
 - 3. 14
 - 4. 11

Question ID : 264330154663
Option 1 ID : 264330606117
Option 2 ID : 264330606116
Option 3 ID : 264330606118
Option 4 ID : 264330606115
Status : Answered
Chosen Option : 2

Q.13 दी गई श्रृंखला में प्रश्न चिह्न '?' के स्थान पर क्या आना चाहिए?

16 17 20 21 24 ?

- Ans
- 1. 28
 - 2. 25
 - 3. 30
 - 4. 27

Question ID : 264330151721
Option 1 ID : 264330594512
Option 2 ID : 264330594511
Option 3 ID : 264330594513
Option 4 ID : 264330594514
Status : Answered
Chosen Option : 2

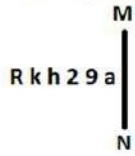
Q.14 अक्षरों के उस संयोजन को चुनिए जिसे दी गई श्रृंखला के रिक्त स्थानों में क्रमिक रूप से रखने पर श्रृंखला पूरी हो जाएगी।

C _ D _ DD _ _ DC _ D

- Ans
- 1. DCDCD
 - 2. CCDCC
 - 3. DCCDD
 - 4. DDCCD

Question ID : 264330151642
Option 1 ID : 264330594197
Option 2 ID : 264330594198
Option 3 ID : 264330594195
Option 4 ID : 264330594196
Status : Answered
Chosen Option : 3

Q.15 दी गई आकृति के उस सही दर्पण प्रतिबिंब को चुनिए, जो नीचे दर्शाए गए अनुसार दर्पण को MN पर रखने पर बनेगा।



- Ans
- ✓ 1. R k h 2 9 a
 - ✗ 2. R k h 2 9 a
 - ✗ 3. R k h 2 9 a
 - ✗ 4. R k h 2 9 a

Question ID : 264330151527

Option 1 ID : 264330593735

Option 2 ID : 264330593736

Option 3 ID : 264330593737

Option 4 ID : 264330593738

Status : Answered

Chosen Option : 1

Q.16 दी गई श्रृंखला में प्रश्न चिन्ह '?' के स्थान पर क्या आना चाहिए?

13 34 76 160 328 ?

- Ans
- ✗ 1. 638
 - ✓ 2. 664
 - ✗ 3. 625
 - ✗ 4. 672

Question ID : 264330151466

Option 1 ID : 264330593492

Option 2 ID : 264330593493

Option 3 ID : 264330593491

Option 4 ID : 264330593494

Status : Answered

Chosen Option : 4

Q.17 नीचे दिए गए कथनों और निष्कर्षों को ध्यानपूर्वक पढ़िए। आपको मानना है कि दिए गए कथन सत्य हैं चाहे वे समान्यतः ज्ञात तथ्यों से अलग प्रतीत होते हों। आपको निश्चय करना है कि कौन-सा/कौन-से निष्कर्ष तार्किक रूप से दिए गए कथनों के अनुसार है/हैं।

कथन: सभी कूड़ा, टुकड़े हैं। कुछ टुकड़े, बड़े हैं। सभी बड़े, केकड़े हैं।

निष्कर्ष I: सभी बड़े, टुकड़े हैं।
निष्कर्ष II: कुछ केकड़े, टुकड़े हैं।

- Ans**
- 1. केवल निष्कर्ष (I) कथनों के अनुसार है।
 - 2. केवल निष्कर्ष (II) कथनों के अनुसार है।
 - 3. न तो निष्कर्ष (I) और न ही (II) कथनों के अनुसार है।
 - 4. दोनों निष्कर्ष (I) और (II) कथनों के अनुसार हैं।

Question ID : 264330155909

Option 1 ID : 264330611039

Option 2 ID : 264330611040

Option 3 ID : 264330611041

Option 4 ID : 264330611042

Status : Answered

Chosen Option : 2

Q.18 एक निश्चित कूट भाषा में, 'ENTER' को 'FOTGT' लिखा जाता है और 'DICEY' को 'EJCGA' लिखा जाता है। उस कूट भाषा में 'CHILD' को कैसे लिखा जाएगा?

- Ans**
- 1. DIINF
 - 2. EHIMF
 - 3. DHIME
 - 4. EJJNE

Question ID : 264330155831

Option 1 ID : 264330610727

Option 2 ID : 264330610729

Option 3 ID : 264330610730

Option 4 ID : 264330610728

Status : Answered

Chosen Option : 1

Q.19 Six people, Kajal, Neetu, Lovey, Omar, Meenu and Jay are sitting in a straight line, facing north. Lovey sits 3rd from the left end. Neetu sits 2nd to the right of Lovey. Omar sits to the immediate right of Neetu. Meenu sits 2nd to the left of Omar. Kajal sits 2nd to the left of Meenu. Who sits to the immediate left of Lovey?

- Ans**
- 1. Omar
 - 2. Kajal
 - 3. Meenu
 - 4. Jay

Question ID : 264330155662

Option 1 ID : 264330610052

Option 2 ID : 264330610051

Option 3 ID : 264330610053

Option 4 ID : 264330610054

Status : Answered

Chosen Option : 2

Q.20 यदि F का अर्थ '-', C का अर्थ 'x', D का अर्थ '+', B का अर्थ '÷' है, तो निम्नलिखित समीकरण में प्रश्न चिह्न (?) के स्थान पर क्या आएगा?
44 F 18 C 3 B 108 D 6 = ?

- Ans
- 1. 16
 - 2. 6
 - 3. 18
 - 4. 8

Question ID : 264330154680
Option 1 ID : 264330606185
Option 2 ID : 264330606183
Option 3 ID : 264330606186
Option 4 ID : 264330606184
Status : Answered
Chosen Option : 4

Section : General Awareness

Q.1 अमन सहरावत किस वर्ग में विश्व कुश्ती चैम्पियनशिप (World Wrestling Championship) में स्वर्ण पदक जीतने वाले पहले भारतीय बने?

- Ans
- 1. U-25
 - 2. U-20
 - 3. U-23
 - 4. U-15

Question ID : 264330158372
Option 1 ID : 264330620850
Option 2 ID : 264330620848
Option 3 ID : 264330620849
Option 4 ID : 264330620847
Status : Answered
Chosen Option : 2

Q.2 स्वामी दयानंद सरस्वती ने 1875 में एक सुधार संगठन की स्थापना की जिसने हिंदू धर्म में सुधार लाने का प्रयास किया। इस संगठन को क्या कहा जाता था?

- Ans
- 1. ब्रह्म समाज
 - 2. प्रार्थना समाज
 - 3. सत्यशोधक समाज
 - 4. आर्य समाज

Question ID : 264330161743
Option 1 ID : 264330634299
Option 2 ID : 264330634301
Option 3 ID : 264330634302
Option 4 ID : 264330634300
Status : Answered
Chosen Option : 4

Q.3 निम्नलिखित में से किस भारतीय संगीतकार को 'मल्लिका-ए-ग़ज़ल (Mallika-e-Ghazal)' कहा जाता था?

- Ans
- 1. फरीदा खानम
 - 2. चित्रा सिंह
 - 3. प्रभा भारती
 - 4. बेगम अख्तर

Question ID : 264330161777
Option 1 ID : 264330634438
Option 2 ID : 264330634436
Option 3 ID : 264330634437
Option 4 ID : 264330634435
Status : Answered
Chosen Option : 4

Q.4 'यॉर्कर (Yorker)' शब्द किस खेल से संबंधित है?

- Ans
- 1. खो खो
 - 2. क्रिकेट
 - 3. बास्केटबॉल
 - 4. कबड्डी

Question ID : 264330158243
Option 1 ID : 264330620333
Option 2 ID : 264330620334
Option 3 ID : 264330620331
Option 4 ID : 264330620332
Status : Answered
Chosen Option : 2

Q.5 लोकप्रिय बॉलीवुड अभिनेत्री कृति सैनन एक प्रशिक्षित _____ नर्तकी है।

- Ans
- 1. भरतनाट्यम
 - 2. कुचिपुडी
 - 3. कथक
 - 4. ओडिसी

Question ID : 264330159069
Option 1 ID : 264330623635
Option 2 ID : 264330623636
Option 3 ID : 264330623637
Option 4 ID : 264330623638
Status : Answered
Chosen Option : 1

Q.6 निम्नलिखित में से हिमालय की सबसे दक्षिणी श्रेणी की पहचान कीजिए।

- Ans
- 1. शिवालिक श्रेणी (Shivaliks Range)
 - 2. वृहद हिमालय श्रेणी (Greater Himalaya Range)
 - 3. ट्रांस हिमालय श्रेणी (Trans Himalaya Range)
 - 4. निम्न हिमालय श्रेणी (Lesser Himalaya Range)

Question ID : 264330161529
Option 1 ID : 264330633443
Option 2 ID : 264330633445
Option 3 ID : 264330633446
Option 4 ID : 264330633444
Status : Answered
Chosen Option : 1

Q.7 राज्य के नीति निदेशक सिद्धांतों के बारे में निम्नलिखित में से कौन-सा कथन सही नहीं है?

- Ans
- 1. स्त्री और पुरुष दोनों के लिए आजीविका के पर्याप्त साधन उपलब्ध कराना
 - 2. कुछ हाथों में संपत्ति के संकेंद्रण को रोकने के लिए आर्थिक व्यवस्था को पुनर्गठित करना
 - 3. केवल पुरुषों के लिए समान कार्य के लिए समान पारिश्रमिक सुनिश्चित करना
 - 4. पुरुष, स्त्री और बच्चों के लिए उपर्युक्त रोजगार और कार्य का स्वच्छ वातवरण सुनिश्चित करना

Question ID : 264330162149

Option 1 ID : 264330635923

Option 2 ID : 264330635924

Option 3 ID : 264330635925

Option 4 ID : 264330635926

Status : Answered

Chosen Option : 3

Q.8 बृहदेश्वर मंदिर का निर्माण किसके द्वारा किया गया था?

- Ans
- 1. समुद्रगुप्त
 - 2. राजराज द्वितीय
 - 3. राजेंद्र चोल
 - 4. राजराज प्रथम

Question ID : 264330160783

Option 1 ID : 264330630463

Option 2 ID : 264330630466

Option 3 ID : 264330630464

Option 4 ID : 264330630465

Status : Answered

Chosen Option : 4

Q.9 ट्रेन टू पाकिस्तान (Train to Pakistan)' उपन्यास _____ द्वारा लिखा गया था।

- Ans
- 1. इमरान खान
 - 2. खुशवंत सिंह
 - 3. नवाज शरीफ
 - 4. जाकिर हुसैन

Question ID : 264330160972

Option 1 ID : 264330631220

Option 2 ID : 264330631221

Option 3 ID : 264330631219

Option 4 ID : 264330631222

Status : Answered

Chosen Option : 2

Q.10 वैश्विक बहुआयामी गरीबी सूचकांक (MPI) 2021 के अनुसार, 109 देशों में से भारत का स्थान _____ है।

- Ans
- 1. 59वां
 - 2. 63वां
 - 3. 71वां
 - 4. 66वां

Question ID : 264330166018

Option 1 ID : 264330651147

Option 2 ID : 264330651148

Option 3 ID : 264330651150

Option 4 ID : 264330651149

Status : Answered

Chosen Option : 4

Q.11 निम्नलिखित में से कौन-सा कथन 'प्रशांत अग्नि वलय' (pacific ring of fire) से सबसे अच्छा संबंधित है?

- Ans
- 1. केवल हिमानी संरचनाओं के लिए जाना जाता है
 - 2. थर्मल पावर स्टेशन के लिए जाना जाता है
 - 3. ज्वालामुखी और भूकंप के लिए जाना जाता है
 - 4. उष्णकटिबंधीय वर्षावनों के लिए जाना जाता है

Question ID : 264330157832
Option 1 ID : 264330618690
Option 2 ID : 264330618687
Option 3 ID : 264330618688
Option 4 ID : 264330618689
Status : Answered
Chosen Option : 3

Q.12 पाकिस्तान में हर वर्ष _____ को स्वतंत्रता दिवस मनाया जाता है।

- Ans
- 1. 31 दिसंबर
 - 2. 23 मार्च
 - 3. 30 जनवरी
 - 4. 14 अगस्त

Question ID : 264330161565
Option 1 ID : 264330633589
Option 2 ID : 264330633590
Option 3 ID : 264330633588
Option 4 ID : 264330633587
Status : Answered
Chosen Option : 4

Q.13 _____ के आदिवासी नर्तक और गायक, अर्जुन सिंह धुर्वे को वर्ष 2022 में 'पद्म श्री' से सम्मानित किया गया है।

- Ans
- 1. तमिलनाडु
 - 2. कर्नाटक
 - 3. मध्यप्रदेश
 - 4. आंध्र प्रदेश

Question ID : 264330155530
Option 1 ID : 264330609524
Option 2 ID : 264330609523
Option 3 ID : 264330609526
Option 4 ID : 264330609525
Status : Answered
Chosen Option : 2

Q.14 चार नट्टुवनार (Nattuvanars) अर्थात् पोनेय्या (Ponaiyah), वडिवेलु (Vadivelu), शिवानंदम (Sivanandam) और चिन्नैया (Chinnaiya), जो तंजौर बंधु के नाम से प्रसिद्ध हैं, ने आधुनिक को आकार दिया।

- Ans
- 1. कथकली
 - 2. कोडियाट्टम
 - 3. कुचिपुडी
 - 4. भरतनाट्यम

Question ID : 264330160806
Option 1 ID : 264330630558
Option 2 ID : 264330630555
Option 3 ID : 264330630557
Option 4 ID : 264330630556
Status : Answered
Chosen Option : 4

Q.15 राष्ट्रीय आय की गणना में मध्यवर्ती वस्तुओं को शामिल क्यों नहीं किया जाता है?

- Ans
- 1. मध्यवर्ती वस्तुओं को शामिल करने से राष्ट्रीय आय का मूल्य कम हो जाएगा।
 - 2. मध्यवर्ती वस्तुओं का उत्पादन देश की सीमाओं के भीतर नहीं किया जाता है।
 - 3. मध्यवर्ती वस्तुओं को शामिल करने से दोहरी गणना होगी।
 - 4. आर्थिक गतिविधि को मापने के लिए मध्यवर्ती वस्तुएं महत्वपूर्ण नहीं हैं।

Question ID : 264330157313
Option 1 ID : 264330616618
Option 2 ID : 264330616615
Option 3 ID : 264330616616
Option 4 ID : 264330616617
Status : Answered
Chosen Option : 3

Q.16 निम्नलिखित में से कौन-सी घटना 1919 में घटित हुई थी?

- Ans
- 1. ठगी एवं डकैती दमन अधिनियम पारित किया गया
 - 2. जनप्रतिनिधित्व अधिनियम पारित किया गया
 - 3. चार्टर एक्ट का नवीनीकरण
 - 4. रौलेट एक्ट के विरुद्ध सत्याग्रह

Question ID : 264330160877
Option 1 ID : 264330630841
Option 2 ID : 264330630842
Option 3 ID : 264330630839
Option 4 ID : 264330630840
Status : Answered
Chosen Option : 4

Q.17 2022 विजय हजारे ट्रॉफी का फाइनल मैच निम्नलिखित में से किस शहर में आयोजित किया गया था?

- Ans
- 1. लखनऊ
 - 2. रायपुर
 - 3. रांची
 - 4. अहमदाबाद

Question ID : 264330161156
Option 1 ID : 264330631958
Option 2 ID : 264330631955
Option 3 ID : 264330631956
Option 4 ID : 264330631957
Status : Answered
Chosen Option : 4

Q.18 कोणार्क नृत्य महोत्सव (केडीएफ) 1986 से हर वर्ष _____ के बीच कोणार्क में आयोजित किया जाता है।

- Ans
- 1. 1 और 5 अक्टूबर
 - 2. 1 और 5 जनवरी
 - 3. 1 और 5 अगस्त
 - 4. 1 और 5 दिसंबर

Question ID : 264330160838
Option 1 ID : 264330630685
Option 2 ID : 264330630683
Option 3 ID : 264330630684
Option 4 ID : 264330630686
Status : Answered
Chosen Option : 2

Q.19 फरवरी 2023 में, उत्तरप्रदेश सरकार ने परिवार आईडी-एक परिवार एक पहचान (Family ID-One Family One Identity) नामक एक _____ लॉन्च किया।

- Ans
- 1. समाचार पत्र
 - 2. पोर्टल
 - 3. व्हाट्सएप ग्रुप
 - 4. ईमेल आईडी

Question ID : 264330158328
Option 1 ID : 264330620674
Option 2 ID : 264330620673
Option 3 ID : 264330620671
Option 4 ID : 264330620672
Status : Answered
Chosen Option : 2

Q.20 'आनंदमठ' ('Anandamath') एक प्रसिद्ध _____ उपन्यास है जो बंकिम चंद्र चटर्जी द्वारा लिखा गया था।

- Ans
- 1. राजस्थानी
 - 2. पंजाबी
 - 3. गुजराती
 - 4. बंगाली

Question ID : 264330155500
Option 1 ID : 264330609403
Option 2 ID : 264330609406
Option 3 ID : 264330609405
Option 4 ID : 264330609404
Status : Answered
Chosen Option : 4

Q.21 ऑक्सीजन का नामकरण और रासायनिक नामकरण को व्यवस्थित करने में मदद करके 18वीं शताब्दी में रासायनिक क्रांति की शुरुआत किसने की?

- Ans
- 1. जोसेफ प्रीस्टले (Antoine-Laurent Lavoisier)
 - 2. एंटेनी लॉरेंट लवाइजिए (Antoine-Laurent Lavoisier)
 - 3. स्वंते अगस्त अरहेनियस (Svante August Arrhenius)
 - 4. डेम कैथलीन लोन्सडेल (Dame Kathleen Lonsdale)

Question ID : 264330161048
Option 1 ID : 264330631526
Option 2 ID : 264330631525
Option 3 ID : 264330631523
Option 4 ID : 264330631524
Status : Not Answered
Chosen Option : --

Q.22 निम्नलिखित गायकों में से किस गायक के नाम एक ही दिन में 28 गाने रिकॉर्ड करने का गिनीज वर्ल्ड रिकॉर्ड था? (दिसंबर 2022 तक।)

- Ans
- 1. अरिजीत सिंह
 - 2. कुमार सानू
 - 3. उदित नारायण
 - 4. सोनू निगम

Question ID : 264330155515
Option 1 ID : 264330609463
Option 2 ID : 264330609466
Option 3 ID : 264330609465
Option 4 ID : 264330609464
Status : Answered
Chosen Option : 4

Q.23 विटामिन B की कमी और इसके अपर्याप्त सेवन से कौन-सा रोग होता है?

- Ans
- 1. स्कर्वी (Scurvy)
 - 2. सूखा रोग (Rickets)
 - 3. बेरी बेरी (Beri Beri)
 - 4. वर्णांधता (Colour blindness)

Question ID : 264330157809
Option 1 ID : 264330618597
Option 2 ID : 264330618596
Option 3 ID : 264330618598
Option 4 ID : 264330618595
Status : Answered
Chosen Option : 3

Q.24 बैंक स्टेटमेंट का मुख्य उद्देश्य क्या है?

- Ans
- 1. दूसरे खाते में धनराशि स्थानांतरित करना
 - 2. बैंक में लॉकर सुविधा उपलब्ध होना
 - 3. आय और व्यय पर नज़र रखना
 - 4. नए बैंकिंग उत्पादों का विज्ञापन करना

Question ID : 264330157305

Option 1 ID : 264330616586

Option 2 ID : 264330616585

Option 3 ID : 264330616583

Option 4 ID : 264330616584

Status : Answered

Chosen Option : 4

Q.25 भारत के नागरिकों के लिए मतदान की न्यूनतम आयु क्या है?

- Ans
- 1. 21 वर्ष
 - 2. 18 वर्ष
 - 3. 25 वर्ष
 - 4. 30 वर्ष

Question ID : 264330159915

Option 1 ID : 264330627008

Option 2 ID : 264330627007

Option 3 ID : 264330627009

Option 4 ID : 264330627010

Status : Answered

Chosen Option : 2

Section : English Language and Comprehension

Q.1 Select the option that rectifies the spelling of the underlined word in the given sentence.

The maintenance department did a fabulous job.

- Ans
- 1. mainteanance
 - 2. maintenannce
 - 3. meintenance
 - 4. maintenance

Question ID : 264330153155

Option 1 ID : 264330600182

Option 2 ID : 264330600180

Option 3 ID : 264330600181

Option 4 ID : 264330600179

Status : Answered

Chosen Option : 4

Q.2 Select the most appropriate ANTONYM of the word given in brackets to fill in the blank.

Uncle Joe is _____ (reputable) for spending 10 years of his youth in prison due to armed robbery.

- Ans
- 1. anxious
 - 2. notorious
 - 3. well-known
 - 4. mournful

Question ID : 264330152696
Option 1 ID : 264330598389
Option 2 ID : 264330598387
Option 3 ID : 264330598390
Option 4 ID : 264330598388
Status : Answered
Chosen Option : 2

Q.3 Select the most appropriate meaning of the underlined idiom.

These things are very hard to swallow.

- Ans
- 1. difficult to believe
 - 2. difficult to eat
 - 3. difficult to speak
 - 4. difficult to resist

Question ID : 264330143186
Option 1 ID : 264330561020
Option 2 ID : 264330561019
Option 3 ID : 264330561021
Option 4 ID : 264330561022
Status : Answered
Chosen Option : 2

Q.4 Select the most appropriate idiom to fill in the blank.
It's easy to say that you'll start exercising every day, but it is _____.

- Ans
- 1. crying wolf
 - 2. easier said than done
 - 3. going the extra mile
 - 4. like fish out of water

Question ID : 264330151887
Option 1 ID : 264330595170
Option 2 ID : 264330595167
Option 3 ID : 264330595169
Option 4 ID : 264330595168
Status : Answered
Chosen Option : 4

Q.5 Select the option that can be used as a one-word substitute for the given group of words.

Easily set on fire

- Ans 1. Inflammable
 2. Inimical
 3. Innocuous
 4. Ingrained

Question ID : 264330151911

Option 1 ID : 264330595259

Option 2 ID : 264330595261

Option 3 ID : 264330595262

Option 4 ID : 264330595260

Status : Answered

Chosen Option : 1

Q.6 The following sentence has been split into four segments. Identify the segment that contains a grammatical error.

My daughter was / invited to lunch / hosted by the Governor / at his residence.

- Ans 1. My daughter was
 2. at his residence
 3. invited to lunch
 4. hosted by the Governor

Question ID : 264330155412

Option 1 ID : 264330609055

Option 2 ID : 264330609058

Option 3 ID : 264330609056

Option 4 ID : 264330609057

Status : Answered

Chosen Option : 3

Q.7 The following sentence has been split into four segments. Identify the segment that contains a grammatical error.

The new software / consists from / several features / and tools.

- Ans 1. The new software
 2. consists from
 3. several features
 4. and tools

Question ID : 264330155430

Option 1 ID : 264330609127

Option 2 ID : 264330609128

Option 3 ID : 264330609129

Option 4 ID : 264330609130

Status : Answered

Chosen Option : 2

Q.8 Select the most appropriate meaning of the given phrase.

All of a sudden

- Ans 1. Quickly and unexpectedly
 2. Quickly and Expectedly
 3. Accidentally
 4. Intentionally

Question ID : 264330155394

Option 1 ID : 264330608989

Option 2 ID : 264330608988

Option 3 ID : 264330608990

Option 4 ID : 264330608987

Status : Answered

Chosen Option : 1

Q.9 Select the option that can be used as a one-word substitute for the underlined group of words.

Sita loves her glass container in which she has many fish.

- Ans 1. planetarium
 2. cannister
 3. aquarium
 4. museum

Question ID : 264330153514

Option 1 ID : 264330601569

Option 2 ID : 264330601570

Option 3 ID : 264330601568

Option 4 ID : 264330601567

Status : Answered

Chosen Option : 3

Q.10 Select the INCORRECTLY spelt word.

- Ans 1. Indigestion
 2. Lyricist
 3. Paralycis
 4. Patron

Question ID : 264330151927

Option 1 ID : 264330595326

Option 2 ID : 264330595325

Option 3 ID : 264330595324

Option 4 ID : 264330595323

Status : Answered

Chosen Option : 1

Q.11 The following sentence has been split into four segments. Identify the segment that contains an error.
She has / bought / a car / two years ago.

- Ans
- 1. two years ago
 - 2. bought
 - 3. a car
 - 4. She has

Question ID : 264330155321
Option 1 ID : 264330608726
Option 2 ID : 264330608724
Option 3 ID : 264330608725
Option 4 ID : 264330608723
Status : Answered
Chosen Option : 4

Q.12 Select the most appropriate synonym of the bracketed word in the following sentence to fill in the blank.
The novel's intricate plot and rich character development kept readers _____(committed) from the beginning to the end.

- Ans
- 1. detached
 - 2. secluded
 - 3. dismantled
 - 4. engaged

Question ID : 264330152658
Option 1 ID : 264330598237
Option 2 ID : 264330598238
Option 3 ID : 264330598235
Option 4 ID : 264330598236
Status : Answered
Chosen Option : 4

Q.13 Select the most appropriate ANTONYM of the given word.
Carnal

- Ans
- 1. Material
 - 2. Spiritual
 - 3. Somatic
 - 4. Temporal

Question ID : 264330153577
Option 1 ID : 264330601805
Option 2 ID : 264330601806
Option 3 ID : 264330601804
Option 4 ID : 264330601803
Status : Answered
Chosen Option : 2

Q.14 Select the most appropriate idiom to fill in the blank.

The decision to go on a trip after my vacations was the _____.

- Ans
- 1. ice on the cake
 - 2. icing on the cake
 - 3. apple on the cake
 - 4. icing on the brownie

Question ID : 264330153078
Option 1 ID : 264330599876
Option 2 ID : 264330599877
Option 3 ID : 264330599878
Option 4 ID : 264330599875
Status : Answered
Chosen Option : 2

Q.15 Select the option that can be used as a one-word substitute for the given group of words.
Fail to function normally

- Ans
- 1. Maltreat
 - 2. Malfunction
 - 3. Manipulate
 - 4. Mangle

Question ID : 264330151908
Option 1 ID : 264330595247
Option 2 ID : 264330595250
Option 3 ID : 264330595249
Option 4 ID : 264330595248
Status : Answered
Chosen Option : 2

Q.16 Parts of the following sentence have been given as options. Select the option that contains an error.
If you work hard, you secure good marks.

- Ans
- 1. If you
 - 2. work hard
 - 3. good marks
 - 4. you secure

Question ID : 264330152819
Option 1 ID : 264330598867
Option 2 ID : 264330598868
Option 3 ID : 264330598870
Option 4 ID : 264330598869
Status : Answered
Chosen Option : 4

Q.17 Select the option that can be used as a one-word substitute for the given group of words.

A person who is skilled in making maps

- Ans** 1. Calligrapher
 2. Cartographer
 3. Cacographer
 4. Curator

Question ID : 264330153342
Option 1 ID : 264330600919
Option 2 ID : 264330600921
Option 3 ID : 264330600922
Option 4 ID : 264330600920
Status : Answered
Chosen Option : 2

Q.18 Select the INCORRECTLY spelt word.

- Ans** 1. Repulse
 2. Recruit
 3. Resist
 4. Rectifie

Question ID : 264330151924
Option 1 ID : 264330595314
Option 2 ID : 264330595312
Option 3 ID : 264330595313
Option 4 ID : 264330595311
Status : Answered
Chosen Option : 4

Q.19 Select the most appropriate option to fill in the blank.

I wish we had _____ come here.

- Ans** 1. never
 2. right
 3. clear
 4. agreed

Question ID : 264330153495
Option 1 ID : 264330601498
Option 2 ID : 264330601495
Option 3 ID : 264330601496
Option 4 ID : 264330601497
Status : Answered
Chosen Option : 1

Q.20 Select the most appropriate option that can rectify the underlined segment in the given sentence. If there is no need to rectify it, select 'no rectification needed'.

His claim to be the smartly kid in the school was a bit hyperbole!

- Ans
- 1. smarter
 - 2. smart
 - 3. smartest
 - 4. no rectification needed

Question ID : 264330153464

Option 1 ID : 264330601373

Option 2 ID : 264330601371

Option 3 ID : 264330601372

Option 4 ID : 264330601374

Status : Answered

Chosen Option : 3

Comprehension:

In the following passage, some words have been deleted. Read the passage carefully and select the most appropriate option to fill in each blank.

Students put their heart and soul into studies while (1)_____ for examinations. They prepare the syllabus by giving many revisions, making important points on flash cards, preparing notes throughout the year. They read reference books in order to score good marks in the examination. This is the demanding (2)_____ of all the students who are appearing in the examinations. But, most students feel tensed on the day before an examination. Everyone is in a state of (3)_____ as to what questions would be asked in the paper and whether they could write their answers properly to get good marks. Such overthinking is the cause of (4)_____ which definitely affects their performance. They should revise the subject regularly and should not keep their doubts pending. This will not create a (5)_____ of backlog and they will get sufficient time to resolve their problem.

SubQuestion No : 21

Q.21 Select the most appropriate option to fill in blank number 1.

- Ans
- 1. calculating
 - 2. preparing
 - 3. producing
 - 4. guiding

Question ID : 264330152914

Option 1 ID : 264330599235

Option 2 ID : 264330599236

Option 3 ID : 264330599237

Option 4 ID : 264330599238

Status : Answered

Chosen Option : 2

Comprehension:

In the following passage, some words have been deleted. Read the passage carefully and select the most appropriate option to fill in each blank.

Students put their heart and soul into studies while (1)_____ for examinations. They prepare the syllabus by giving many revisions, making important points on flash cards, preparing notes throughout the year. They read reference books in order to score good marks in the examination. This is the demanding (2)_____ of all the students who are appearing in the examinations. But, most students feel tensed on the day before an examination. Everyone is in a state of (3)_____ as to what questions would be asked in the paper and whether they could write their answers properly to get good marks. Such overthinking is the cause of (4)_____ which definitely affects their performance. They should revise the subject regularly and should not keep their doubts pending. This will not create a (5)_____ of backlog and they will get sufficient time to resolve their problem.

SubQuestion No : 22

Q.22 Select the most appropriate option to fill in blank number 2.

- Ans
- 1. habit
 - 2. principle
 - 3. routine
 - 4. method

Question ID : 264330152915

Option 1 ID : 264330599240

Option 2 ID : 264330599242

Option 3 ID : 264330599241

Option 4 ID : 264330599239

Status : Answered

Chosen Option : 3

Comprehension:

In the following passage, some words have been deleted. Read the passage carefully and select the most appropriate option to fill in each blank.

Students put their heart and soul into studies while (1)_____ for examinations. They prepare the syllabus by giving many revisions, making important points on flash cards, preparing notes throughout the year. They read reference books in order to score good marks in the examination. This is the demanding (2)_____ of all the students who are appearing in the examinations. But, most students feel tensed on the day before an examination. Everyone is in a state of (3)_____ as to what questions would be asked in the paper and whether they could write their answers properly to get good marks. Such overthinking is the cause of (4)_____ which definitely affects their performance. They should revise the subject regularly and should not keep their doubts pending. This will not create a (5)_____ of backlog and they will get sufficient time to resolve their problem.

SubQuestion No : 23

Q.23 Select the most appropriate option to fill in blank number 3.

- Ans
- 1. hesitation
 - 2. uncertainty
 - 3. confidence
 - 4. assurance

Question ID : 264330152916

Option 1 ID : 264330599245

Option 2 ID : 264330599243

Option 3 ID : 264330599244

Option 4 ID : 264330599246

Status : Answered

Chosen Option : 1

Comprehension:

In the following passage, some words have been deleted. Read the passage carefully and select the most appropriate option to fill in each blank.
Students put their heart and soul into studies while (1)_____ for examinations. They prepare the syllabus by giving many revisions, making important points on flash cards, preparing notes throughout the year. They read reference books in order to score good marks in the examination. This is the demanding (2)_____ of all the students who are appearing in the examinations. But, most students feel tensed on the day before an examination. Everyone is in a state of (3)_____ as to what questions would be asked in the paper and whether they could write their answers properly to get good marks. Such overthinking is the cause of (4)_____ which definitely affects their performance. They should revise the subject regularly and should not keep their doubts pending. This will not create a (5)_____ of backlog and they will get sufficient time to resolve their problem.

SubQuestion No : 24

Q.24 Select the most appropriate option to fill in blank number 4.

- Ans 1. peace
 2. comfort
 3. anxiety
 4. agitation

Question ID : 264330152917

Option 1 ID : 264330599247

Option 2 ID : 264330599249

Option 3 ID : 264330599248

Option 4 ID : 264330599250

Status : Answered

Chosen Option : 3

Comprehension:

In the following passage, some words have been deleted. Read the passage carefully and select the most appropriate option to fill in each blank.
Students put their heart and soul into studies while (1)_____ for examinations. They prepare the syllabus by giving many revisions, making important points on flash cards, preparing notes throughout the year. They read reference books in order to score good marks in the examination. This is the demanding (2)_____ of all the students who are appearing in the examinations. But, most students feel tensed on the day before an examination. Everyone is in a state of (3)_____ as to what questions would be asked in the paper and whether they could write their answers properly to get good marks. Such overthinking is the cause of (4)_____ which definitely affects their performance. They should revise the subject regularly and should not keep their doubts pending. This will not create a (5)_____ of backlog and they will get sufficient time to resolve their problem.

SubQuestion No : 25

Q.25 Select the most appropriate option to fill in blank number 5.

- Ans 1. mass
 2. burden
 3. power
 4. weight

Question ID : 264330152918

Option 1 ID : 264330599252

Option 2 ID : 264330599254

Option 3 ID : 264330599251

Option 4 ID : 264330599253

Status : Answered

Chosen Option : 2

Multi Tasking Non Technical Staff and Havaladar CBIC and CBN Examination 2023

Roll Number	KD Job Updates
Candidate Name	KD Job Updates
Venue Name	ION DIGITAL ZONE IDZ TUPUDANA
Exam Date	14/09/2023
Exam Time	4:00 PM - 6:00 PM
Subject	MTS Non Tech Havaladar CBIC and CBN Examination 2023

Section : Numerical and Mathematical Ability

Q.1 ₹500 प्रति किलोग्राम वाले कॉफ़ी पाउडर को ₹750 प्रति किलोग्राम वाले कॉफ़ी पाउडर के साथ किस अनुपात में मिलाया जाए ताकि मिश्रण का मूल्य ₹600 प्रति किलोग्राम हो जाए?

- Ans**
- 1. 5 : 2
 - 2. 4 : 3
 - 3. 3 : 2
 - 4. 3 : 1

Question ID : 264330155955

Option 1 ID : 264330611221

Option 2 ID : 264330611220

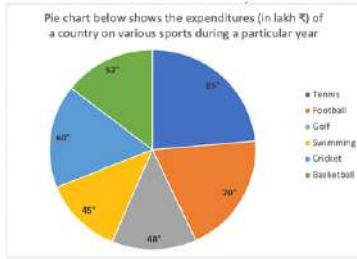
Option 3 ID : 264330611219

Option 4 ID : 264330611222

Status : Answered

Chosen Option : 3

Q.2 नीचे दिए गए वृत्त आलेख में एक विशिष्ट वर्ष के दौरान विभिन्न खेलों पर एक देश के व्यय (लाख ₹ में) को दर्शाया गया है। वृत्त आलेख का ध्यानपूर्वक अध्ययन कीजिए और इसके नीचे दिए गए प्रश्नों के उत्तर दीजिए।



संदर्भ: Pie chart below shows the expenditures (in lakh ₹) of a country on various sports during a particular year - वृत्त आलेख एक विशिष्ट वर्ष के दौरान विभिन्न खेलों पर एक देश के व्यय (लाख ₹ में) को दर्शाता है, Tennis - टेनिस, Football - फुटबॉल, Golf - गोल्फ, Swimming - तैराकी, Cricket - क्रिकेट, Basketball - बास्केटबॉल

टेनिस, फुटबॉल और क्रिकेट पर मिलाकर कुल व्यय गोल्फ, तैराकी और बास्केटबॉल पर मिलाकर कुल व्यय से कितना प्रतिशत (दशमलव के एक स्थान तक सन्निकटित) अधिक या कम है?

- Ans
- 1. अधिक, 29.6%
 - 2. कम, 29.6%
 - 3. कम, 48.3%
 - 4. अधिक, 48.3%

Question ID : 264330153785
Option 1 ID : 264330602605
Option 2 ID : 264330602606
Option 3 ID : 264330602604
Option 4 ID : 264330602603
Status : Answered
Chosen Option : 1

Q.3 स्मिता, पिहू से तेज है। स्मिता और पिहू प्रत्येक 48 km चलते हैं। उनकी चालों का योग 14 km/hr है, और उनके द्वारा लिए गए समय का योग 28 घंटे है। स्मिता की चाल क्या है?

- Ans
- 1. 12.5 km/hr
 - 2. 8 km/hr
 - 3. 10 km/hr
 - 4. 12 km/hr

Question ID : 264330156192
Option 1 ID : 264330612169
Option 2 ID : 264330612167
Option 3 ID : 264330612168
Option 4 ID : 264330612170
Status : Answered
Chosen Option : 4

Q.4 30 आदमी एक काम को 10 दिनों में पूरा कर सकते हैं। उन्होंने काम करना शुरू किया और छः दिनों के बाद 10 और आदमी उनके साथ शामिल हो गए। कुल काम कितने दिनों में पूरा होगा?

- Ans**
- 1. 8
 - 2. 9
 - 3. 7
 - 4. 6

Question ID : 264330156240
Option 1 ID : 264330612361
Option 2 ID : 264330612362
Option 3 ID : 264330612360
Option 4 ID : 264330612359
Status : Answered
Chosen Option : 2

Q.5 5.5% वार्षिक के साधारण ब्याज पर एक धनराशि 4 वर्षों में ₹7,503 हो जाती है। धनराशि (₹ में) ज्ञात कीजिए।

- Ans**
- 1. 6,150
 - 2. 5,980
 - 3. 5,350
 - 4. 5,520

Question ID : 264330155745
Option 1 ID : 264330610386
Option 2 ID : 264330610385
Option 3 ID : 264330610383
Option 4 ID : 264330610384
Status : Answered
Chosen Option : 1

Q.6 12^{35} , 3^{12} और 4^{12} का चतुर्थ समानुपाती ज्ञात कीजिए।

- Ans**
- 1. 4^{24}
 - 2. 12^{-11}
 - 3. 12^{-23}
 - 4. 3^{24}

Question ID : 264330154053
Option 1 ID : 264330603677
Option 2 ID : 264330603675
Option 3 ID : 264330603676
Option 4 ID : 264330603678
Status : Answered
Chosen Option : 3

Q.7 एक आदमी अपने घर से एक सब्जी बाजार 15 km/h की चाल से जाता है और 10 km/h की चाल से वापस आता है। यदि पूरी यात्रा में 2 घंटे 30 मिनट का समय लगा, तो उसके घर से सब्जी बाजार की दूरी (km में) ज्ञात कीजिए।

- Ans
- 1. 12
 - 2. 20
 - 3. 18
 - 4. 15

Question ID : 264330155992
Option 1 ID : 264330611368
Option 2 ID : 264330611370
Option 3 ID : 264330611369
Option 4 ID : 264330611367
Status : Answered
Chosen Option : 4

Q.8 यदि चक्रवृद्धि व्याज 12% वार्षिक दर से अर्ध-वार्षिक रूप से देय है, तो एक वर्ष के बाद ₹12,500 की राशि पर देय राशि (₹ में) कितनी होगी?

- Ans
- 1. 14,540
 - 2. 14,450
 - 3. 15,440
 - 4. 14,045

Question ID : 264330153774
Option 1 ID : 264330602562
Option 2 ID : 264330602559
Option 3 ID : 264330602560
Option 4 ID : 264330602561
Status : Answered
Chosen Option : 4

Q.9 यदि $A : B : C = 3 : 4 : 5$, तो $\sqrt{A^2 + B^2} : \sqrt{C^2 - B^2}$ _____ है।

- Ans
- 1. 3 : 2
 - 2. 3 : 5
 - 3. 5 : 3
 - 4. 4 : 5

Question ID : 264330154084
Option 1 ID : 264330603800
Option 2 ID : 264330603799
Option 3 ID : 264330603801
Option 4 ID : 264330603802
Status : Answered
Chosen Option : 3

Q.10 यदि एक हानि, विक्रय मूल्य का $\frac{1}{8}$ है, तो हानि प्रतिशत क्या है?

- Ans
- 1. $8\frac{5}{9}\%$
 - 2. $7\frac{4}{9}\%$
 - 3. $10\frac{1}{9}\%$
 - 4. $11\frac{1}{9}\%$

Question ID : 264330162069

Option 1 ID : 264330635604

Option 2 ID : 264330635606

Option 3 ID : 264330635603

Option 4 ID : 264330635605

Status : Answered

Chosen Option : 4

Q.11 एक कारखाने का मालिक उसके द्वारा निर्मित उत्पाद पर 12% अर्जित करता है। दुकानदार उसी वस्तु पर 10% का लाभ अर्जित करता है। यदि दुकानदार उत्पाद को ₹ 98.56 में बेचता है, तो कारखाने के मालिक के लिए उत्पाद का क्रय मूल्य ₹ ___ है।

- Ans
- 1. 90
 - 2. 84
 - 3. 88
 - 4. 80

Question ID : 264330153804

Option 1 ID : 264330602680

Option 2 ID : 264330602681

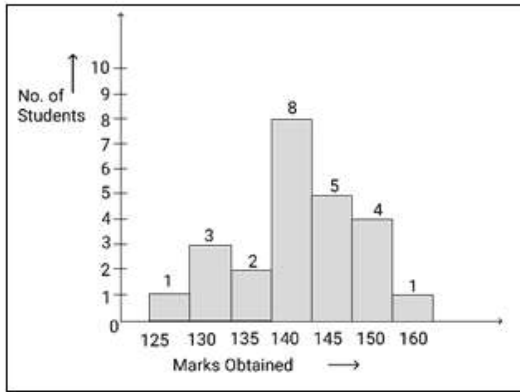
Option 3 ID : 264330602679

Option 4 ID : 264330602682

Status : Answered

Chosen Option : 4

Q.12 दिए गए आलेख का अध्ययन कीजिए और दिए गए प्रश्न का उत्तर दीजिए।



संदर्भ: No. of Students - छात्रों की संख्या, Marks Obtained - प्राप्तांक

कितने छात्रों ने 125 से अधिक अंक प्राप्त किए?

- Ans
- ✓ 1. 23
 - ✗ 2. 19
 - ✗ 3. 15
 - ✗ 4. 17

Question ID : 264330156242

Option 1 ID : 264330612370

Option 2 ID : 264330612369

Option 3 ID : 264330612367

Option 4 ID : 264330612368

Status : Answered

Chosen Option : 1

Q.13 निम्नलिखित व्यंजक का मान ज्ञात कीजिए।

$$\frac{[27 - (6 \div 3) \times 4] + 18}{84 - 8 \div 4 \times 8 - 2}$$

- Ans
- ✓ 1. $\frac{37}{66}$
 - ✗ 2. $\frac{29}{20}$
 - ✗ 3. $\frac{8}{9}$
 - ✗ 4. $\frac{33}{7}$

Question ID : 264330156176

Option 1 ID : 264330612106

Option 2 ID : 264330612104

Option 3 ID : 264330612103

Option 4 ID : 264330612105

Status : Answered

Chosen Option : 1

Q.14 228 m लंबी एक रेलगाड़ी 125 km/h की चाल से चल रही है। रेलगाड़ी जिस दिशा में जा रही है उसी दिशा में 17 km/h की चाल से दौड़ रहे एक व्यक्ति को पार करने में रेलगाड़ी को कितना समय (सेकंड में) लगेगा?

- Ans**
- 1. 9.2
 - 2. 7.6
 - 3. 6.2
 - 4. 8.5

Question ID : 264330155754
Option 1 ID : 264330610419
Option 2 ID : 264330610421
Option 3 ID : 264330610422
Option 4 ID : 264330610420
Status : Answered
Chosen Option : 2

Q.15 दो संख्याओं का अनुपात 3 : 4 है। यदि इन दोनों संख्याओं का योग 70 है, तो उनका लघुत्तम समापवर्त्य ज्ञात कीजिए।

- Ans**
- 1. 84
 - 2. 96
 - 3. 108
 - 4. 120

Question ID : 264330155689
Option 1 ID : 264330610159
Option 2 ID : 264330610160
Option 3 ID : 264330610161
Option 4 ID : 264330610162
Status : Answered
Chosen Option : 4

Q.16 एरिन अकेले किसी काम को 6 दिनों में कर सकती है और सेल्वी अकेले उसी काम को 8 दिनों में कर सकती है। एरिन और सेल्वी ने ₹7,200 में यह काम हाथ में लिया। केविन की मदद से उन्होंने 3 दिनों में काम पूरा कर लिया। केविन को कितनी धनराशि का भुगतान किया जाना है?

- Ans**
- 1. ₹900
 - 2. ₹800
 - 3. ₹700
 - 4. ₹600

Question ID : 264330156118
Option 1 ID : 264330611873
Option 2 ID : 264330611874
Option 3 ID : 264330611871
Option 4 ID : 264330611872
Status : Answered
Chosen Option : 1

Q.17 एक वर्ग और एक समचतुर्भुज का आधार समान है तथा समचतुर्भुज, 45° के कोण पर झुका हुआ है। वर्ग के क्षेत्रफल और समचतुर्भुज के क्षेत्रफल का अनुपात कितना होगा?

- Ans**
- 1. $\sqrt{3}:1$
 - 2. $\sqrt{2}:\sqrt{3}$
 - 3. $\sqrt{2}:1$
 - 4. $1:\sqrt{3}$

Question ID : 264330154105

Option 1 ID : 264330603883

Option 2 ID : 264330603885

Option 3 ID : 264330603886

Option 4 ID : 264330603884

Status : Answered

Chosen Option : 3

Q.18 P और Q का कुल वेतन ₹6,40,000 है। P और Q अपने-अपने वेतन का क्रमशः 60% और 40% बचाते हैं। यदि उनके व्यय समान हैं, तो P के वेतन और Q के वेतन का अनुपात क्या है?

- Ans**
- 1. 3 : 2
 - 2. 3 : 4
 - 3. 4 : 3
 - 4. 2 : 3

Question ID : 264330153762

Option 1 ID : 264330602511

Option 2 ID : 264330602513

Option 3 ID : 264330602514

Option 4 ID : 264330602512

Status : Answered

Chosen Option : 1

Q.19 ₹140 प्रति किलोग्राम और ₹90 प्रति किलोग्राम के चावल को किस अनुपात में मिलाया जाए ताकि दो किस्म के चावल के मिश्रण का मूल्य ₹110 प्रति किलोग्राम हो जाए?

- Ans**
- 1. 2 : 3
 - 2. 1 : 3
 - 3. 3 : 2
 - 4. 1 : 2

Question ID : 264330154120

Option 1 ID : 264330603944

Option 2 ID : 264330603946

Option 3 ID : 264330603943

Option 4 ID : 264330603945

Status : Answered

Chosen Option : 1

Q.20 एक बंद लकड़ी का बक्सा बाहर से 10 cm लंबा, 8 cm चौड़ा और 6 cm ऊंचा है। यदि लकड़ी की मोटाई 0.5 cm है, तो बक्सा बनाने के लिए आवश्यक लकड़ी का आयतन कितना है?

- Ans**
- 1. 150 cm³
 - 2. 230 cm³
 - 3. 165 cm³
 - 4. 300 cm³

Question ID : 264330154107
Option 1 ID : 264330603891
Option 2 ID : 264330603894
Option 3 ID : 264330603893
Option 4 ID : 264330603892
Status : Not Answered
Chosen Option : --

Section : Reasoning Ability and Problem Solving

Q.1 यदि '+' और '-' को आपस में बदल दिया जाए तथा '×' और '÷' को आपस में बदल दिया जाए तो निम्नलिखित समीकरण में (?) के स्थान पर क्या आएगा?
 $37 - 18 \div 6 + 325 \times 25 = ?$

- Ans**
- 1. 152
 - 2. 142
 - 3. 122
 - 4. 132

Question ID : 264330155673
Option 1 ID : 264330610095
Option 2 ID : 264330610097
Option 3 ID : 264330610096
Option 4 ID : 264330610098
Status : Answered
Chosen Option : 4

Q.2 दी गई श्रृंखला में प्रश्न चिन्ह '?' के स्थान पर क्या आना चाहिए?

20 104 524 2624 13124 ?

- Ans**
- 1. 65282
 - 2. 64586
 - 3. 63457
 - 4. 65624

Question ID : 264330151461
Option 1 ID : 264330593473
Option 2 ID : 264330593472
Option 3 ID : 264330593471
Option 4 ID : 264330593474
Status : Answered
Chosen Option : 4

Q.3 दी गई श्रृंखला में प्रश्न चिन्ह '?' के स्थान पर क्या आना चाहिए?

18 41 110 ? 938 2801 8390

- Ans
- 1. 325
 - 2. 317
 - 3. 339
 - 4. 291

Question ID : 264330151488
Option 1 ID : 264330593581
Option 2 ID : 264330593580
Option 3 ID : 264330593582
Option 4 ID : 264330593579
Status : Answered
Chosen Option : 2

Q.4 मीना, सरोज, गोल्डी, प्रीति, पूनम और बेबी एक वृत्ताकार मेज के चारों ओर केंद्र की ओर मुख करके बैठे हैं। मीना, सरोज के ठीक बाईं ओर बैठी है। गोल्डी, सरोज के दाईं ओर से तीसरे स्थान पर बैठा है। प्रीति, गोल्डी के बाईं ओर से दूसरे स्थान पर बैठी है। पूनम, गोल्डी के ठीक दाईं ओर बैठी है। बेबी के बाईं ओर से दूसरे स्थान पर कौन बैठा/बैठी है?

- Ans
- 1. पूनम
 - 2. गोल्डी
 - 3. सरोज
 - 4. प्रीति

Question ID : 264330155649
Option 1 ID : 264330610002
Option 2 ID : 264330610001
Option 3 ID : 264330609999
Option 4 ID : 264330610000
Status : Answered
Chosen Option : 3

Q.5 अंग्रेजी वर्णमाला क्रम के आधार पर BNFT, FRJX से एक निश्चित प्रकार से संबंधित है। उसी प्रकार, JOEA, NSIE से संबंधित है। समान तर्क का अनुसरण करते हुए, HERK निम्नलिखित में से किससे संबंधित है?

- Ans
- 1. LIVO
 - 2. LJVP
 - 3. JHVP
 - 4. KHUN

Question ID : 264330151679
Option 1 ID : 264330594346
Option 2 ID : 264330594343
Option 3 ID : 264330594345
Option 4 ID : 264330594344
Status : Answered
Chosen Option : 1

Q.6 एक निश्चित तर्क के अनुसार 5, 20 से संबंधित है। समान तर्क के अनुसार, 7, 26 से संबंधित है। समान तर्क का अनुसरण करते हुए 2 निम्नलिखित में से किससे संबंधित है?

- Ans**
- 1. 13
 - 2. 10
 - 3. 12
 - 4. 11

Question ID : 264330151581
Option 1 ID : 264330593954
Option 2 ID : 264330593951
Option 3 ID : 264330593953
Option 4 ID : 264330593952
Status : Answered
Chosen Option : 4

Q.7 अक्षरों के उस संयोजन को चुनिए जिसे दी गई श्रृंखला के रिक्त स्थानों में क्रमिक रूप से रखने पर श्रृंखला पूरी हो जाएगी।

w _ x _ xxw _ x _ _ x

- Ans**
- 1. XWXWX
 - 2. WWXWX
 - 3. WXWXW
 - 4. XWWWX

Question ID : 264330151655
Option 1 ID : 264330594249
Option 2 ID : 264330594248
Option 3 ID : 264330594250
Option 4 ID : 264330594247
Status : Answered
Chosen Option : 1

Q.8 अंग्रेजी वर्णमाला क्रम के आधार पर दी गई श्रृंखला में प्रश्न चिह्न (?) के स्थान पर क्या आना चाहिए?

ZHS, YER, XBQ, WYP, ?

- Ans**
- 1. WWN
 - 2. WVN
 - 3. VWO
 - 4. VVO

Question ID : 264330155789
Option 1 ID : 264330610562
Option 2 ID : 264330610559
Option 3 ID : 264330610561
Option 4 ID : 264330610560
Status : Answered
Chosen Option : 4

Q.9 दी गई श्रृंखला में प्रश्न चिन्ह '?' के स्थान पर क्या आना चाहिए?

19 40 103 292 859 ?

- Ans
- 1. 2490
 - 2. 2560
 - 3. 2508
 - 4. 2536

Question ID : 264330151454

Option 1 ID : 264330593443

Option 2 ID : 264330593446

Option 3 ID : 264330593444

Option 4 ID : 264330593445

Status : Answered

Chosen Option : 1

Q.10 यदि 11 जून 1987 को गुरुवार है, तो 4 दिसंबर 1989 को सप्ताह का कौन-सा दिन होगा?

- Ans
- 1. मंगलवार
 - 2. सोमवार
 - 3. बुधवार
 - 4. शनिवार

Question ID : 264330154332

Option 1 ID : 264330604792

Option 2 ID : 264330604793

Option 3 ID : 264330604794

Option 4 ID : 264330604791

Status : Answered

Chosen Option : 2

KD Job Updates

Q.11 यदि निम्नलिखित आकृति श्रृंखला को जारी रखना हो तो कौन-सी आकृति प्रश्न चिन्ह (?) के स्थान पर आनी चाहिए?

B	Y	6	6	Y	△	△	6	=	=	6	B	?
△		↑	↑		B	B		↑	↑		△	

Ans

✗ 1. $B = 6$
△ ↑

✗ 2. $C = 6$
△ ↑

✓ 3. $B = C$
△ ↑

✗ 4. $△ C ↑$
B =

Question ID : 264330154746

Option 1 ID : 264330606449

Option 2 ID : 264330606448

Option 3 ID : 264330606450

Option 4 ID : 264330606447

Status : Not Answered

Chosen Option : --

Q.12 यदि '+' और '*' को आपस में बदल दिया जाए और '-' और '/' को आपस में बदल दिया जाए तो निम्नलिखित समीकरण में '?' के स्थान पर क्या आएगा?

$$7 + 7 \times 3 - 4 \div 5 = ?$$

Ans ✗ 1. -4

✗ 2. -1

✓ 3. -6

✗ 4. -2

Question ID : 264330154659

Option 1 ID : 264330606099

Option 2 ID : 264330606102

Option 3 ID : 264330606100

Option 4 ID : 264330606101

Status : Answered

Chosen Option : 3

Q.13 नीचे दिए गए कथनों और निष्कर्षों को ध्यानपूर्वक पढ़िए। आपको मानना है कि दिए गए कथन सत्य हैं चाहे वे समान्यतः ज्ञात तथ्यों से अलग प्रतीत होते हों। आपको निश्चय करना है कि कौन-सा/कौन-से निष्कर्ष तार्किक रूप से दिए गए कथनों के अनुसार है/हैं।

कथन: सभी बाल्टियां, प्लास्टिक हैं। कुछ प्लास्टिक, चम्मचें हैं। सभी चम्मचें, कांटे हैं।

निष्कर्ष I: कुछ प्लास्टिक, बाल्टियां हैं।

निष्कर्ष II: कुछ प्लास्टिक, कांटे हैं।

- Ans**
- 1. न तो निष्कर्ष (I) और न ही (II) कथनों के अनुसार है।
 - 2. दोनों निष्कर्ष (I) और (II) कथनों के अनुसार हैं।
 - 3. केवल निष्कर्ष (II) कथनों के अनुसार है।
 - 4. केवल निष्कर्ष (I) कथनों के अनुसार है।

Question ID : 264330155928

Option 1 ID : 264330611117

Option 2 ID : 264330611118

Option 3 ID : 264330611116

Option 4 ID : 264330611115

Status : Answered

Chosen Option : 2

Q.14 एक निश्चित कूट भाषा में, 'FLOWERY' को 'FYREWOL' लिखा जाता है और 'LINGUIST' को 'LTSIUGN' लिखा जाता है। उस कूट भाषा में 'MANIFEST' को कैसे लिखा जाएगा?

- Ans**
- 1. TESFINAM
 - 2. MTSEFINA
 - 3. MSTEGJMA
 - 4. SEFINAMT

Question ID : 264330155814

Option 1 ID : 264330610659

Option 2 ID : 264330610661

Option 3 ID : 264330610662

Option 4 ID : 264330610660

Status : Answered

Chosen Option : 2

Q.15 अंग्रेजी वर्णमाला क्रम के आधार पर दी गई श्रृंखला में प्रश्न चिह्न (?) के स्थान पर क्या आना चाहिए?

BSL, EUM, HWN, KYO, ?

- Ans**
- 1. NAP
 - 2. MBP
 - 3. MBQ
 - 4. NBR

Question ID : 264330155775

Option 1 ID : 264330610504

Option 2 ID : 264330610506

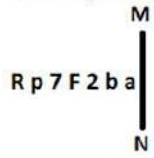
Option 3 ID : 264330610503

Option 4 ID : 264330610505

Status : Answered

Chosen Option : 1

Q.16 दी गई आकृति के उस सही दर्पण प्रतिबिंब को चुनिए, जो नीचे दर्शाए गए अनुसार दर्पण को MN पर रखने पर बनेगा।



Ans

- 1. a d 5 7 7 q R
- 2. s d 5 7 7 q R
- 3. s d 5 7 7 d R
- 4. a d 7 7 7 q R

Question ID : 264330151520

Option 1 ID : 264330593710

Option 2 ID : 264330593708

Option 3 ID : 264330593709

Option 4 ID : 264330593707

Status : Answered

Chosen Option : 2

KD Job Updates

Q.17 उस विकल्प आकृति को चुनिए जिसमें दी गई आकृति (X) उसके भाग के रूप में निहित है। (पूर्ण की अनुमति नहीं है)



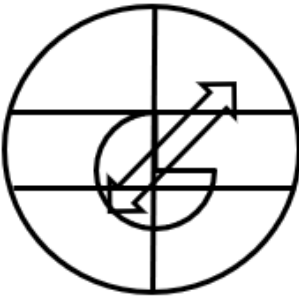
(X)

Ans

✗ 1.



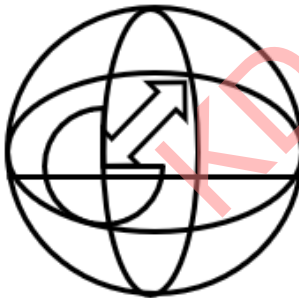
✗ 2.



✗ 3.



✓ 4.



Question ID : 264330151729

Option 1 ID : 264330594546

Option 2 ID : 264330594543

Option 3 ID : 264330594545

Option 4 ID : 264330594544

Status : Answered

Chosen Option : 4

Q.18 एक निश्चित कूट भाषा में, 'how are you' को 'aj ts el' लिखा जाता है और 'show them how' को 'wn el pd' लिखा जाता है। उसी कूट भाषा में 'how' को कैसे लिखा जाएगा?

- Ans
- 1. pd
 - 2. el
 - 3. wn
 - 4. aj

Question ID : 264330151711
Option 1 ID : 264330594471
Option 2 ID : 264330594473
Option 3 ID : 264330594474
Option 4 ID : 264330594472
Status : Answered
Chosen Option : 2

Q.19 नीचे दिए गए कथन/कथनों और निष्कर्षों को ध्यानपूर्वक पढ़िए। आपको मानना है कि दिए गए कथन सत्य हैं चाहे वे समान्यतः ज्ञात तथ्यों से अलग प्रतीत होते हों। आपको निश्चय करना है कि कौन-सा/कौन-से निष्कर्ष तार्किक रूप से दिए गए कथन/कथनों के अनुसार है/हैं।

कथन: सभी ट्रक, मक्खियां हैं। कुछ स्कूटर, मक्खियां हैं।

निष्कर्ष:

- (I) सभी ट्रक, स्कूटर हैं।
- (II) कुछ स्कूटर, ट्रक हैं।

- Ans
- 1. दोनों निष्कर्ष (I) और (II) कथनों के अनुसार हैं।
 - 2. केवल निष्कर्ष (II) कथनों के अनुसार है।
 - 3. केवल निष्कर्ष (I) कथनों के अनुसार है।
 - 4. न तो निष्कर्ष (I) और न ही (II) कथनों के अनुसार है।

Question ID : 264330154429
Option 1 ID : 264330605182
Option 2 ID : 264330605180
Option 3 ID : 264330605179
Option 4 ID : 264330605181
Status : Answered
Chosen Option : 4

Q.20 एक निश्चित तर्क के अनुसार 14, 57 से संबंधित है। समान तर्क के अनुसार, 22, 89 से संबंधित है। समान तर्क का अनुसरण करते हुए 52 निम्नलिखित में से किससे संबंधित है?

- Ans
- 1. 208
 - 2. 204
 - 3. 209
 - 4. 206

Question ID : 264330151607
Option 1 ID : 264330594057
Option 2 ID : 264330594055
Option 3 ID : 264330594058
Option 4 ID : 264330594056
Status : Answered
Chosen Option : 3

Q.1 _____ उस्ताद जिन्होंने 1940 के दशक के अंत में इस कला शैली को पुनर्जीवित किया जिसमें केलुचरण महापात्र और रघुनाथ दत्ता शामिल हैं।

- Ans 1. ओडिसी
 2. छउ
 3. मणिपुरी
 4. सत्रिय

Question ID : 264330160813
Option 1 ID : 264330630585
Option 2 ID : 264330630586
Option 3 ID : 264330630583
Option 4 ID : 264330630584
Status : Answered
Chosen Option : 1

Q.2 लता मंगेशकर द्वारा गाए गए प्रसिद्ध गीत "ऐ मेरे वतन के लोगों" के संगीत निर्देशक कौन थे?

- Ans 1. किशोर कुमार
 2. राजेश रोशन
 3. आनंद राज आनंद
 4. सी रामचन्द्र

Question ID : 264330155514
Option 1 ID : 264330609462
Option 2 ID : 264330609459
Option 3 ID : 264330609460
Option 4 ID : 264330609461
Status : Not Answered
Chosen Option : --

Q.3 'ट्रुथ, लव एंड ए लिटिल मैलिस (Truth, Love and a Little Malice)' आत्मकथा निम्नलिखित में से किस लेखक द्वारा लिखी गई है?

- Ans 1. प्रतिभा रे
 2. अमृता प्रीतम
 3. चेतन भगत
 4. खुशवंत सिंह

Question ID : 264330160962
Option 1 ID : 264330631181
Option 2 ID : 264330631179
Option 3 ID : 264330631182
Option 4 ID : 264330631180
Status : Not Answered
Chosen Option : --

Q.4 2023 में, कोरिया-भारत राजनयिक संबंधों के 50 साल पूरे होने के उपलक्ष्य में _____ में तीन दिवसीय अखिल भारतीय ताइक्वांडो चैम्पियनशिप (All-India Taekwondo Championship) आयोजित की गई थी।

- Ans
- 1. मिजोरम
 - 2. बेंगलुरु
 - 3. कोलकाता
 - 4. नई दिल्ली

Question ID : 264330161154
Option 1 ID : 264330631950
Option 2 ID : 264330631947
Option 3 ID : 264330631949
Option 4 ID : 264330631948
Status : Not Answered
Chosen Option : --

Q.5 इंडिया गेट किस शहर में स्थित है?

- Ans
- 1. अहमदाबाद
 - 2. मुंबई
 - 3. दिल्ली
 - 4. लखनऊ

Question ID : 264330160775
Option 1 ID : 264330630433
Option 2 ID : 264330630432
Option 3 ID : 264330630431
Option 4 ID : 264330630434
Status : Answered
Chosen Option : 3

Q.6 भारत में जंगली गधे और ऊंट किस प्रकार के वनों में पाए जाते हैं?

- Ans
- 1. मैंग्रोव वन
 - 2. उष्णकटिबंधीय सदाबहार वन
 - 3. कांटेदार वन और झाड़ियां
 - 4. पर्वतीय वन

Question ID : 264330161499
Option 1 ID : 264330633323
Option 2 ID : 264330633325
Option 3 ID : 264330633324
Option 4 ID : 264330633326
Status : Answered
Chosen Option : 1

Q.7 हिंदू कैलेंडर के अनुसार, होली _____ को मनाई जाती है।

- Ans
- 1. चैत्र पूर्णिमा
 - 2. माघ पूर्णिमा
 - 3. फाल्गुन पूर्णिमा
 - 4. पौष पूर्णिमा

Question ID : 264330160827
Option 1 ID : 264330630641
Option 2 ID : 264330630640
Option 3 ID : 264330630639
Option 4 ID : 264330630642
Status : Answered
Chosen Option : 3

Q.8 विटामिन B1 की कमी से कौन-सा पोषण संबंधी विकार होता है जिससे परिधीय तंत्रिकाओं (peripheral nerves) और क्षय (wasting) की समस्याएं उत्पन्न होती हैं?

- Ans
- 1. पर्निसियस एनीमिया (Pernicious anaemia)
 - 2. सूखा रोग (Rickets)
 - 3. बेरीबेरी (Beriberi)
 - 4. शुष्काक्षिपाक (Xerophthalmia)

Question ID : 264330161075

Option 1 ID : 264330631631

Option 2 ID : 264330631632

Option 3 ID : 264330631633

Option 4 ID : 264330631634

Status : Answered

Chosen Option : 3

Q.9 वैयक्तिक आय (personal income) के संबंध में प्रयोज्य आय (disposable income) के बारे में निम्नलिखित में से कौन-सा सत्य है?

- Ans
- 1. करों और कटौतियों के आधार पर प्रयोज्य आय वैयक्तिक आय से अधिक या कम हो सकती है।
 - 2. प्रयोज्य आय हमेशा वैयक्तिक आय से अधिक होती है।
 - 3. प्रयोज्य आय हमेशा वैयक्तिक आय से कम होती है।
 - 4. प्रयोज्य आय वैयक्तिक आय के बराबर होती है।

Question ID : 264330161589

Option 1 ID : 264330633686

Option 2 ID : 264330633683

Option 3 ID : 264330633684

Option 4 ID : 264330633685

Status : Answered

Chosen Option : 3

Q.10 निम्नलिखित में से कौन-सा ऊष्मामिति (calorimetry) की प्रक्रिया का सबसे अच्छा वर्णन करता है?

- Ans
- 1. बल की मात्रा का मापन
 - 2. संपीड़न सामर्थ्य की मात्रा का मापन
 - 3. स्थानांतरित ऊष्मा ऊर्जा की मात्रा का मापन
 - 4. बिजली की मात्रा का मापन

Question ID : 264330161330

Option 1 ID : 264330632647

Option 2 ID : 264330632649

Option 3 ID : 264330632650

Option 4 ID : 264330632648

Status : Answered

Chosen Option : 3

Q.11 मलयालम कवि वल्लथोल नारायण मेनन (Vallathol Narayana Menon) और नृत्यांगना और गुरु कल्याणीकुट्टी अम्मा (Kalyanikutti Amma) के प्रयासों ने _____ नृत्य शैली को फिर से चलन में लाया और एक नया जीवनदान दिया।

- Ans
- 1. भरतनाट्यम
 - 2. कथकली
 - 3. मोहिनीअट्टम
 - 4. कुचिपुड़ी

Question ID : 264330160790
Option 1 ID : 264330630492
Option 2 ID : 264330630491
Option 3 ID : 264330630494
Option 4 ID : 264330630493
Status : Not Answered
Chosen Option : --

Q.12 'प्लेइंग इट माई वे (Playing It My Way)' आत्मकथा निम्नलिखित में से किस क्रिकेट खिलाड़ी द्वारा लिखी गई है?

- Ans
- 1. सौरव गांगुली
 - 2. किरण मोरे
 - 3. युवराज सिंह
 - 4. सचिन तेंदुलकर

Question ID : 264330160960
Option 1 ID : 264330631172
Option 2 ID : 264330631174
Option 3 ID : 264330631173
Option 4 ID : 264330631171
Status : Answered
Chosen Option : 3

Q.13 किस भारतीय धावक ने फ्लैंडर्स कप 2023 एथलेटिक्स मीट (Flanders Cup 2023 athletics meet) में पुरुषों की 100 और 200 मीटर दौड़ में एक-एक स्वर्ण पदक जीता?

- Ans
- 1. मोहम्मद अफ़सल पी (Mohammed Afsal P)
 - 2. जिन्सन जॉनसन (Jinson Johnson)
 - 3. अमलान बोरगोहेन (Amlan Borgohain)
 - 4. तेजस शिरसे (Tejas Shirse)

Question ID : 264330161132
Option 1 ID : 264330631859
Option 2 ID : 264330631861
Option 3 ID : 264330631860
Option 4 ID : 264330631862
Status : Not Answered
Chosen Option : --

Q.14 भारत के संविधान का कौन-सा अनुच्छेद सभी बच्चों को छः वर्ष की आयु पूरी करने तक प्रारंभिक बाल्यावस्था देखभाल और शिक्षा का प्रावधान करता है?

- Ans
- 1. अनुच्छेद 38
 - 2. अनुच्छेद 40
 - 3. अनुच्छेद 45
 - 4. अनुच्छेद 39

Question ID : 264330159906
Option 1 ID : 264330626974
Option 2 ID : 264330626972
Option 3 ID : 264330626971
Option 4 ID : 264330626973
Status : Answered
Chosen Option : 3

Q.15 1901 में 'पॉवर्टी एंड अन-ब्रिटिश रूल इन इंडिया (Poverty and Un-British Rule in India)' पुस्तक किसने लिखी, जिसमें ब्रिटिश शासन के आर्थिक प्रभाव की अत्यधिक आलोचना की गई थी?

- Ans
- 1. फिरोजशाह मेहता
 - 2. बदरुद्दीन तैयबजी
 - 3. डब्ल्यू. सी. बोनर्जी
 - 4. दादाभाई नौरोजी

Question ID : 264330161748
Option 1 ID : 264330634319
Option 2 ID : 264330634321
Option 3 ID : 264330634320
Option 4 ID : 264330634322
Status : Answered
Chosen Option : 4

Q.16 ज्यूरिच डायमंड लीग (Zurich Diamond League) में स्वर्ण जीतने वाले पहले भारतीय भाला फेंक (javelin) खिलाड़ी कौन बने?

- Ans
- 1. रोहित यादव
 - 2. साहिल सिलवाल
 - 3. नीरज चोपड़ा
 - 4. शिवपाल यादव

Question ID : 264330158363
Option 1 ID : 264330620814
Option 2 ID : 264330620813
Option 3 ID : 264330620812
Option 4 ID : 264330620811
Status : Answered
Chosen Option : 3

Q.17 निम्नलिखित में से किस भारतीय पार्श्व गायक को 2001 में भारत रत्न प्राप्त हुआ?

- Ans
- 1. आशा भोसले
 - 2. गीता दत्त
 - 3. लता मंगेशकर
 - 4. के.एस. चिन्ना

Question ID : 264330161773
Option 1 ID : 264330634419
Option 2 ID : 264330634421
Option 3 ID : 264330634420
Option 4 ID : 264330634422
Status : Answered
Chosen Option : 3

Q.18 कौन-सा वक्र बेरोजगारी की दर और मौद्रिक मजदूरी परिवर्तन की दर के बीच संबंध की जांच करता है?

- Ans
- 1. अनधिमान वक्र
 - 2. पूर्ति वक्र
 - 3. मांग वक्र
 - 4. फिलिप्स वक्र

Question ID : 264330161456
Option 1 ID : 264330633151
Option 2 ID : 264330633154
Option 3 ID : 264330633153
Option 4 ID : 264330633152
Status : Answered
Chosen Option : 4

Q.19 नीति आयोग के राष्ट्रीय बहुआयामी गरीबी सूचकांक 2021 के अनुसार, निम्नलिखित में से किस राज्य की कुल जनसंख्या का 1% से भी कम बहुआयामी गरीब है?

- Ans
- 1. केरल
 - 2. तेलंगाना
 - 3. महाराष्ट्र
 - 4. पंजाब

Question ID : 264330161569
Option 1 ID : 264330633603
Option 2 ID : 264330633605
Option 3 ID : 264330633606
Option 4 ID : 264330633604
Status : Not Answered
Chosen Option : --

Q.20 भारतीय रिज़र्व बैंक की _____ के तहत जावक प्रेषण (outward remittances) ने वित्त वर्ष 2023 की पहली तिमाही में मजबूत वापसी की क्योंकि भारतीयों ने अंतरराष्ट्रीय यात्रा, करीबी रिश्तेदारों के रखरखाव और उपहारों पर खर्च बढ़ाया।

- Ans
- 1. तरल प्रेषण योजना
 - 2. उदारीकृत प्रेषण योजना
 - 3. नियमित प्रेषण योजना
 - 4. विदेशी प्रेषण योजना

Question ID : 264330161403
Option 1 ID : 264330632941
Option 2 ID : 264330632939
Option 3 ID : 264330632940
Option 4 ID : 264330632942
Status : Not Answered
Chosen Option : --

Q.21 गुरु निरंजन राउत और गुरु रामहरि दास को _____ नृत्य और संगीत के क्षेत्र में उनके योगदान के लिए गुरु केलुचरण महापात्र पुरस्कार 2022 प्रदान किया गया था।

- Ans
- 1. कथक
 - 2. कुचिपुड़ी
 - 3. ओडिसी
 - 4. सत्रिय

Question ID : 264330155484
Option 1 ID : 264330609342
Option 2 ID : 264330609341
Option 3 ID : 264330609340
Option 4 ID : 264330609339
Status : Not Answered
Chosen Option : --

Q.22 प्रधान मंत्री मुद्रा योजना (PMMY) योजना गैर-कॉर्पोरेट, गैर-कृषि लघु और सूक्ष्म उद्यमियों को _____ तक ऋण प्रदान करती है। (अप्रैल 2023 तक)।

- Ans
- 1. 2.5 लाख
 - 2. 10 लाख
 - 3. 1 लाख
 - 4. 5 लाख

Question ID : 264330161578
Option 1 ID : 264330633640
Option 2 ID : 264330633642
Option 3 ID : 264330633639
Option 4 ID : 264330633641
Status : Not Answered
Chosen Option : --

Q.23 भारत में सर्वाधिक वर्षा का मुख्य कारण क्या है?

- Ans
- 1. पश्चिम गारो हिल्स
 - 2. पूर्वी खासी हिल्स
 - 3. दक्षिण-पश्चिम मानसून
 - 4. उत्तर-पूर्वी मानसून

Question ID : 264330157824

Option 1 ID : 264330618658

Option 2 ID : 264330618655

Option 3 ID : 264330618657

Option 4 ID : 264330618656

Status : Answered

Chosen Option : 3

Q.24 निम्नलिखित में से कौन-सा एक संवैधानिक निकाय नहीं है?

- Ans
- 1. नीति आयोग
 - 2. वित्त आयोग
 - 3. निर्वाचन आयोग
 - 4. संघ लोक सेवा आयोग

Question ID : 264330160861

Option 1 ID : 264330630775

Option 2 ID : 264330630778

Option 3 ID : 264330630776

Option 4 ID : 264330630777

Status : Answered

Chosen Option : 1

Q.25 1906 में अखिल भारतीय मुस्लिम लीग की स्थापना कहाँ हुई थी?

- Ans
- 1. लाहौर
 - 2. दिल्ली
 - 3. ढाका
 - 4. आगरा

Question ID : 264330162333

Option 1 ID : 264330636659

Option 2 ID : 264330636662

Option 3 ID : 264330636660

Option 4 ID : 264330636661

Status : Answered

Chosen Option : 3

Q.1 The following sentence has been split into four segments. Identify the segment that contains a grammatical error.

When I was in high school / I participated in several extracurricular activities / such as the debate team and the school newspaper / which help me developed my communication and writing skills.

- Ans**
- 1. When I was in high school
 - 2. such as the debate team and the school newspaper
 - 3. I participated in several extracurricular activities
 - 4. which help me developed my communication and writing skills

Question ID : 264330144180

Option 1 ID : 264330564983

Option 2 ID : 264330564985

Option 3 ID : 264330564984

Option 4 ID : 264330564986

Status : Answered

Chosen Option : 4

Q.2 Select the most appropriate option that can substitute the underlined segment in the given sentence.

The rise in temperature is playing havoc with India's rainfall which is pertinent for India's agriculture sector.

- Ans**
- 1. rainfall who is pertinent
 - 2. rainfall which was mendicant
 - 3. rainfall which is decant
 - 4. rainfall which is significant

Question ID : 264330151807

Option 1 ID : 264330594855

Option 2 ID : 264330594856

Option 3 ID : 264330594858

Option 4 ID : 264330594857

Status : Answered

Chosen Option : 4

Q.3 Select the most appropriate option to fill in the blank.

Winning the championship was a dream come true for the team, but being awarded the MVP trophy was _____.

- Ans**
- 1. the icing on the cake
 - 2. a cold turkey
 - 3. the silver lining
 - 4. the bird in the bush

Question ID : 264330151886

Option 1 ID : 264330595165

Option 2 ID : 264330595163

Option 3 ID : 264330595166

Option 4 ID : 264330595164

Status : Answered

Chosen Option : 1

Q.4 Select the most appropriate option that can substitute the underlined segment in the given sentence.

Simon is afraid of closed space.

- Ans
- 1. has ecophobia
 - 2. has xenophobia
 - 3. has claustrophobia
 - 4. has hydrophobia

Question ID : 264330153512
Option 1 ID : 264330601559
Option 2 ID : 264330601560
Option 3 ID : 264330601561
Option 4 ID : 264330601562
Status : Answered
Chosen Option : 3

Q.5 Select the most appropriate idiom to fill in the blank.

If Peter said he would get that book for you, he will do it. He always _____.

- Ans
- 1. keeps him at arm's length
 - 2. keeps under his hat
 - 3. keeps his word
 - 4. keeps his shirt on

Question ID : 264330153101
Option 1 ID : 264330599969
Option 2 ID : 264330599967
Option 3 ID : 264330599968
Option 4 ID : 264330599970
Status : Answered
Chosen Option : 3

Q.6 Select the most appropriate idiom to fill in the blank.

Sameera has been in _____ since she got selected for a highly paid job at a multinational company.

- Ans
- 1. the dark
 - 2. a cold day in July
 - 3. seventh heaven
 - 4. all the rage

Question ID : 264330152780
Option 1 ID : 264330598712
Option 2 ID : 264330598711
Option 3 ID : 264330598714
Option 4 ID : 264330598713
Status : Answered
Chosen Option : 3

Q.7 The following sentence has been divided into four parts. Identify the part that contains an error.

(A) The twins are / (B) often told that / (C) they are resembling / (D) each other.

- Ans
- 1. A
 - 2. B
 - 3. C
 - 4. D

Question ID : 264330152613

Option 1 ID : 264330598055

Option 2 ID : 264330598058

Option 3 ID : 264330598056

Option 4 ID : 264330598057

Status : Answered

Chosen Option : 4

Q.8 Select the most appropriate option that can substitute the underlined segment in the given sentence. If there is no need to substitute it, select 'No improvement required'.
A wonder in the plant kingdom, the Great Banyan Tree of the AJC Bose Botanical Garden at Shibpur in Howrah, occupies a unique position in the world records.

- Ans
- 1. occupying a unique position in
 - 2. No improvement required
 - 3. being occupied a unique position of
 - 4. occupies an unique position in

Question ID : 264330152667

Option 1 ID : 264330598271

Option 2 ID : 264330598274

Option 3 ID : 264330598272

Option 4 ID : 264330598273

Status : Answered

Chosen Option : 2

Q.9 The sentence given below has spelling errors. Select the sentence without spelling errors.

Knowledge and awareness about my own self has to preceede my knowledge of things other than me.

- Ans
- 1. Knowledge and awareness about my own self has to preceede my knowledge of things other then me.
 - 2. Knowlegde and awareness about my own self has to preceede my knowlegde of things other than me.
 - 3. Knowledge and awarenes about my own self has to preceede my knowledge of things other than me.
 - 4. Knowledge and awareness about my own self has to precede my knowledge of things other than me.

Question ID : 264330151838

Option 1 ID : 264330594982

Option 2 ID : 264330594979

Option 3 ID : 264330594980

Option 4 ID : 264330594981

Status : Answered

Chosen Option : 4

Q.10 Select the most appropriate synonym of the given word.
Magnificent

- Ans 1. Justify
 2. Glorious
 3. Highest
 4. Modest

Question ID : 264330152595
Option 1 ID : 264330597984
Option 2 ID : 264330597986
Option 3 ID : 264330597985
Option 4 ID : 264330597983
Status : Answered
Chosen Option : 2

Q.11 Select the most appropriate ANTONYM of the underlined word.
We requested grandmother to extend her visit.

- Ans 1. Bewail
 2. Curtail
 3. Imperil
 4. Assail

Question ID : 264330151820
Option 1 ID : 264330594908
Option 2 ID : 264330594907
Option 3 ID : 264330594910
Option 4 ID : 264330594909
Status : Answered
Chosen Option : 2

Q.12 Select the most appropriate option that can substitute the underlined segment in the given sentence.

It has raining very hard and he has a very large umbrella to keep off the rain-drops.

- Ans 1. is raining
 2. shall rain
 3. rained
 4. will be rainy

Question ID : 264330153481
Option 1 ID : 264330601439
Option 2 ID : 264330601441
Option 3 ID : 264330601440
Option 4 ID : 264330601442
Status : Answered
Chosen Option : 1

Q.13 The sentence given below contains some spelling errors. Select the option that has the correct spellings.

Applications of subjects like Physiks and chemmistry in our dayly life also have higher visibely than those of Biology.

- Ans
- 1. Aplicacions of subjects like Physics and chemmistry in our daily life also have higher visibely than those of Biology.
 - 2. Applications of subjects like Physics and chemistry in our dayly life also have higher visibely than those of Biology.
 - 3. Aplicacions of subjects like Physiks and Cemistry in our dayly life also have higher visibely than those of Biology.
 - 4. Applications of subjects like Physics and Chemistry in our daily life also have higher visibely than those of Biology.

Question ID : 264330153542

Option 1 ID : 264330601673

Option 2 ID : 264330601672

Option 3 ID : 264330601674

Option 4 ID : 264330601671

Status : Answered

Chosen Option : 4

Q.14 Parts of the following sentence have been given as options. Select the option that contains an error.

The cholera is a frightful disease.

- Ans
- 1. frightful disease
 - 2. is
 - 3. The cholera
 - 4. a

Question ID : 264330152791

Option 1 ID : 264330598758

Option 2 ID : 264330598756

Option 3 ID : 264330598755

Option 4 ID : 264330598757

Status : Answered

Chosen Option : 3

Q.15 Select the most appropriate option to fill in the blank.

The scratches on her hands were clear signs of domestic violence, _____ and said that she got scratched by barbed wire fencing.

- Ans
- 1. and poverty
 - 2. done a while ago
 - 3. yet she lied
 - 4. which was enough evidence

Question ID : 264330152640

Option 1 ID : 264330598165

Option 2 ID : 264330598163

Option 3 ID : 264330598164

Option 4 ID : 264330598166

Status : Answered

Chosen Option : 3

Q.16 Select the most appropriate option that can substitute the underlined segment in the given sentence.

Rahul's sister says that my brother is the best dancer in the city.

- Ans
- 1. her brother was the best dancer in the city
 - 2. her brother is the best dancer in the city
 - 3. my brother was the best dancer in the city
 - 4. his brother was the best dancer in the city

Question ID : 264330152709

Option 1 ID : 264330598436

Option 2 ID : 264330598437

Option 3 ID : 264330598435

Option 4 ID : 264330598438

Status : Answered

Chosen Option : 4

Q.17 Parts of the given sentence have been underlined. One of them contains an error. The underlined parts are given as options with some changes. Select the option that correctly rectifies the error.

The weather is cold tonight than it was yesterday.

- Ans
- 1. are
 - 2. were
 - 3. colder
 - 4. its

Question ID : 264330153175

Option 1 ID : 264330600259

Option 2 ID : 264330600262

Option 3 ID : 264330600260

Option 4 ID : 264330600261

Status : Answered

Chosen Option : 3

Q.18 Select the most appropriate meaning of the underlined segment in the given sentence.

I hope you break a leg at your performance tonight!

- Ans
- 1. Give up
 - 2. Hurt yourself
 - 3. Perform well
 - 4. Make a mistake

Question ID : 264330152925

Option 1 ID : 264330599281

Option 2 ID : 264330599279

Option 3 ID : 264330599280

Option 4 ID : 264330599282

Status : Answered

Chosen Option : 3

Q.19 Select the option that correctly rectifies the underlined spelling error in the given sentence.

Little children are afraid to go to school because of the agressive seniors who tend to bully them.

Ans 1. Aggressive

2. Aggresive

3. Agressive

4. Agrressive

Question ID : 264330155315

Option 1 ID : 264330608700

Option 2 ID : 264330608699

Option 3 ID : 264330608701

Option 4 ID : 264330608702

Status : Answered

Chosen Option : 2

Q.20 Select the most appropriate synonym of the underlined word in the given sentence.

Shiya had more grit than her other siblings.

Ans 1. level

2. courage

3. power

4. gap

Question ID : 264330152722

Option 1 ID : 264330598490

Option 2 ID : 264330598489

Option 3 ID : 264330598487

Option 4 ID : 264330598488

Status : Answered

Chosen Option : 2

Comprehension:

In the following passage some words have been deleted. Fill in the blanks with the help of the alternatives given. Select the most appropriate option for each number.

Each essay is set (1)_____ against its background and made simpler by providing

(2)_____ summary and critical commentary, short notes on textual issues, and

(3)_____ of important critical and theoretical issues under the heading essay topics.

(4)_____ of the most commonly used terms in the literature is given at the end and meant to

serve as ready reference. This book will cater the (5)_____ of students of literature and

teachers teaching this course.

SubQuestion No : 21

Q.21 Select the most appropriate option to fill in blank number 1.

Ans 1. in

2. off

3. on

4. at

Question ID : 264330153584

Option 1 ID : 264330601830

Option 2 ID : 264330601829

Option 3 ID : 264330601827

Option 4 ID : 264330601828

Status : Answered

Chosen Option : 2

Comprehension:

In the following passage some words have been deleted. Fill in the blanks with the help of the alternatives given. Select the most appropriate option for each number.

Each essay is set (1)_____ against its background and made simpler by providing (2)_____ summary and critical commentary, short notes on textual issues, and (3)_____ of important critical and theoretical issues under the heading essay topics. (4)_____ of the most commonly used terms in the literature is given at the end and meant to serve as ready reference. This book will cater the (5)_____ of students of literature and teachers teaching this course.

SubQuestion No : 22

Q.22 Select the most appropriate option to fill in blank number 2.

- Ans 1. that
 2. its
 3. there
 4. this

Question ID : 264330153585

Option 1 ID : 264330601832

Option 2 ID : 264330601833

Option 3 ID : 264330601834

Option 4 ID : 264330601831

Status : Answered

Chosen Option : 2

Comprehension:

In the following passage some words have been deleted. Fill in the blanks with the help of the alternatives given. Select the most appropriate option for each number.

Each essay is set (1)_____ against its background and made simpler by providing (2)_____ summary and critical commentary, short notes on textual issues, and (3)_____ of important critical and theoretical issues under the heading essay topics. (4)_____ of the most commonly used terms in the literature is given at the end and meant to serve as ready reference. This book will cater the (5)_____ of students of literature and teachers teaching this course.

SubQuestion No : 23

Q.23 Select the most appropriate option to fill in blank number 3.

- Ans 1. chats
 2. discussions
 3. thinking
 4. mindset

Question ID : 264330153586

Option 1 ID : 264330601835

Option 2 ID : 264330601836

Option 3 ID : 264330601837

Option 4 ID : 264330601838

Status : Answered

Chosen Option : 2

Comprehension:

In the following passage some words have been deleted. Fill in the blanks with the help of the alternatives given. Select the most appropriate option for each number.

Each essay is set (1)_____ against its background and made simpler by providing (2)_____ summary and critical commentary, short notes on textual issues, and (3)_____ of important critical and theoretical issues under the heading essay topics. (4)_____ of the most commonly used terms in the literature is given at the end and meant to serve as ready reference. This book will cater the (5)_____ of students of literature and teachers teaching this course.

SubQuestion No : 24

Q.24 Select the most appropriate option to fill in blank number 4.

- Ans 1. glossary
 2. grammar
 3. data
 4. figures

Question ID : 264330153587

Option 1 ID : 264330601839

Option 2 ID : 264330601840

Option 3 ID : 264330601842

Option 4 ID : 264330601841

Status : Answered

Chosen Option : 3

Comprehension:

In the following passage some words have been deleted. Fill in the blanks with the help of the alternatives given. Select the most appropriate option for each number.

Each essay is set (1)_____ against its background and made simpler by providing (2)_____ summary and critical commentary, short notes on textual issues, and (3)_____ of important critical and theoretical issues under the heading essay topics. (4)_____ of the most commonly used terms in the literature is given at the end and meant to serve as ready reference. This book will cater the (5)_____ of students of literature and teachers teaching this course.

SubQuestion No : 25

Q.25 Select the most appropriate option to fill in blank number 5.

- Ans 1. desires
 2. feelings
 3. whims
 4. needs

Question ID : 264330153588

Option 1 ID : 264330601846

Option 2 ID : 264330601843

Option 3 ID : 264330601845

Option 4 ID : 264330601844

Status : Answered

Chosen Option : 4