

Multi Tasking Non Technical Staff and Havaladar CBIC and CBN Examination 2022

Roll Number	KD Job Updates
Candidate Name	KD Job Updates
Venue Name	iON Digital Zone iDZ4 Patliputra
Exam Date	02/05/2023
Exam Time	9:00 AM - 10:30 AM
Subject	MTS Non Tech Havaladar CBIC and CBN Examination 2022

Section : Numerical and Mathematical Ability

Q.1 p, q, r और s का औसत 30 है। यदि p और q का औसत 12 है, तो r और s का औसत क्या होगा?

- Ans
- 1. 52
 - 2. 50
 - 3. 48
 - 4. 56

Question Type : MCQ

Question ID : 264330139079

Option 1 ID : 264330544925

Option 2 ID : 264330544923

Option 3 ID : 264330544926

Option 4 ID : 264330544924

Status : Answered

Chosen Option : 3

Q.2 जया ने Rs. 14800 की धनराशि को 8.5% वार्षिक दर पर साधारण ब्याज पर निवेश किया। 6 माह पश्चात अर्जित ब्याज कितना है?

- Ans
- 1. Rs. 642
 - 2. Rs. 629
 - 3. Rs. 598
 - 4. Rs. 580

Question Type : MCQ

Question ID : 264330138711

Option 1 ID : 264330543453

Option 2 ID : 264330543451

Option 3 ID : 264330543454

Option 4 ID : 264330543452

Status : Answered

Chosen Option : 2

Q.3 A, B और C अकाउंटेंट हैं। A अकेले 6 घंटों में रिटर्न फाइल कर सकता है और B अकेले उसी रिटर्न को 10 घंटों में फाइल कर सकता है। तीनों मिलकर इसे 3 घंटे में कर सकते हैं। C अकेले वही रिटर्न कितने समय में फाइल करेगा?

- Ans
- 1. 7 घंटे
 - 2. 15 घंटे
 - 3. 8 घंटे
 - 4. 4 घंटे

Question Type : MCQ
Question ID : 264330135428
Option 1 ID : 264330530619
Option 2 ID : 264330530622
Option 3 ID : 264330530621
Option 4 ID : 264330530620
Status : Answered
Chosen Option : 2

Q.4 एक कंप्यूटर का अंकित मूल्य Rs.10000 है। कंप्यूटर का विक्रय मूल्य Rs.7650 है। यदि 15 प्रतिशत और x प्रतिशत के दो क्रमागत बट्टे दिए जाते हैं, तो x का मान क्या है?

- Ans
- 1. 10 प्रतिशत
 - 2. 20 प्रतिशत
 - 3. 5 प्रतिशत
 - 4. 15 प्रतिशत

Question Type : MCQ
Question ID : 264330139088
Option 1 ID : 264330544959
Option 2 ID : 264330544960
Option 3 ID : 264330544961
Option 4 ID : 264330544962
Status : Answered
Chosen Option : 1

Q.5 A अपनी आय का 18% बचाता है। यदि उसकी आय में 41% की वृद्धि होती है और फिर भी वह उतनी ही धनराशि बचा पाता है, तो उसके व्यय में कितने प्रतिशत वृद्धि हुई?

- Ans
- 1. 60%
 - 2. 50%
 - 3. 40%
 - 4. 35%

Question Type : MCQ
Question ID : 264330138418
Option 1 ID : 264330542282
Option 2 ID : 264330542279
Option 3 ID : 264330542281
Option 4 ID : 264330542280
Status : Answered
Chosen Option : 2

Q.6 यदि दो गोलों के पृष्ठीय क्षेत्रफल 81 : 25 के अनुपात में हैं, तो उनकी त्रिज्याओं का अनुपात क्या है?

- Ans
- ✓ 1. 9 : 5
 - ✗ 2. 5 : 7
 - ✗ 3. 7 : 9
 - ✗ 4. 5 : 8

Question Type : MCQ

Question ID : 264330135433

Option 1 ID : 264330530642

Option 2 ID : 264330530640

Option 3 ID : 264330530641

Option 4 ID : 264330530639

Status : Answered

Chosen Option : 1

Q.7 15 और 25 का लघुत्तम समापवर्त्य (LCM) क्या है?

- Ans
- ✗ 1. 125
 - ✗ 2. 25
 - ✗ 3. 105
 - ✓ 4. 75

Question Type : MCQ

Question ID : 264330139091

Option 1 ID : 264330544973

Option 2 ID : 264330544972

Option 3 ID : 264330544974

Option 4 ID : 264330544971

Status : Answered

Chosen Option : 4

Q.8 अमन, कमल और मनन की चाल का अनुपात क्रमशः 2 : 3 : 4 है। अमन, कमल और मनन द्वारा समान दूरी तय करने में लगने वाले समय का क्रमशः अनुपात क्या है?

- Ans
- ✗ 1. 8 : 9 : 16
 - ✗ 2. 2 : 3 : 4
 - ✓ 3. 6 : 4 : 3
 - ✗ 4. 4 : 3 : 2

Question Type : MCQ

Question ID : 264330139085

Option 1 ID : 264330544949

Option 2 ID : 264330544947

Option 3 ID : 264330544950

Option 4 ID : 264330544948

Status : Answered

Chosen Option : 3

Q.9 एक बस 45 मिनट में 45 km की दूरी तय करती है। यदि इसकी चाल को 20 km/hr कम कर दिया जाए, तो समान दूरी तय करने में इसे कितना समय लगेगा?

- Ans**
- 1. 78.5 मिनट
 - 2. 72.5 मिनट
 - 3. 67.5 मिनट
 - 4. 62.5 मिनट

Question Type : **MCQ**

Question ID : **264330139078**

Option 1 ID : **264330544921**

Option 2 ID : **264330544919**

Option 3 ID : **264330544920**

Option 4 ID : **264330544922**

Status : **Answered**

Chosen Option : **3**

Q.10 M अकेले किसी कार्य को 50 दिनों में पूरा कर सकता है और N अकेले उसी कार्य को 100 दिनों में पूरा कर सकता है। यदि वे दोनों साथ मिलकर कार्य करें, तो 25 दिनों में कुल कार्य का कितना प्रतिशत कार्य पूरा हो जाएगा?

- Ans**
- 1. 60 प्रतिशत
 - 2. 80 प्रतिशत
 - 3. 75 प्रतिशत
 - 4. 55 प्रतिशत

Question Type : **MCQ**

Question ID : **264330138996**

Option 1 ID : **264330544593**

Option 2 ID : **264330544592**

Option 3 ID : **264330544591**

Option 4 ID : **264330544594**

Status : **Answered**

Chosen Option : **3**

Q.11 नीचे दी गई तालिका में पाँच अलग-अलग वस्तुओं के अंकित मूल्य और छूट के मूल्य को दर्शाया गया है।

वस्तु	अंकित मूल्य	छूट
A	Rs. 350	Rs. 70
B	Rs. 650	Rs. 75
C	Rs. 450	Rs. 66
D	Rs. 750	Rs. 72
E	Rs. 850	Rs. 80

विक्रय मूल्य = अंकित मूल्य - छूट

L1 = वस्तु C और D की छूट के औसत का मूल्य।

L2 = सभी वस्तुओं के विक्रय मूल्य का योग।

(L1 + L2) का मान क्या है?

- Ans
- 1. 2816
 - 2. 2618
 - 3. 2756
 - 4. 2687

Question Type : MCQ

Question ID : 264330137172

Option 1 ID : 264330537334

Option 2 ID : 264330537331

Option 3 ID : 264330537332

Option 4 ID : 264330537333

Status : Answered

Chosen Option : 3

Q.12 यदि किसी घनाभ की लंबाई और चौड़ाई दोनों में 50 प्रतिशत की वृद्धि कर दी जाए, तो इसकी ऊँचाई में कितने प्रतिशत की कमी करनी होगी ताकि इसका आयतन वही रहे?

- Ans
- 1. 55.55 प्रतिशत
 - 2. 37.25 प्रतिशत
 - 3. 48.75 प्रतिशत
 - 4. 62.34 प्रतिशत

Question Type : MCQ

Question ID : 264330139009

Option 1 ID : 264330544646

Option 2 ID : 264330544643

Option 3 ID : 264330544644

Option 4 ID : 264330544645

Status : Answered

Chosen Option : 1

Q.13 एक व्यक्ति को एक स्थान तक पैदल जाने और वहाँ से पैदल वापस आने में 6 घंटे का समय लगता है। यदि वह दोनों ओर गाड़ी से जाता तो 2 घंटे का समय बचा सकता था। पूरी यात्रा में तय की गई दूरी 20 मील है। यदि वह पैदल जाता है और गाड़ी से वापस आता है, तो पूरी यात्रा के दौरान उसकी औसत चाल कितनी है?

- Ans
- 1. 6 मील/घंटा
 - 2. 4 मील/घंटा
 - 3. 5 मील/घंटा
 - 4. 8 मील/घंटा

Question Type : MCQ
Question ID : 264330138093
Option 1 ID : 264330540980
Option 2 ID : 264330540979
Option 3 ID : 264330540982
Option 4 ID : 264330540981
Status : Answered
Chosen Option : 2

Q.14 $28 \times 25 \div 7 \times 15 + 63 \times 56 \div 72 \times 5 + 24 \times 7 + 8$ का मान क्या है?

- Ans
- 1. 2101
 - 2. 1901
 - 3. 1821
 - 4. 1921

Question Type : MCQ
Question ID : 264330137171
Option 1 ID : 264330537330
Option 2 ID : 264330537329
Option 3 ID : 264330537327
Option 4 ID : 264330537328
Status : Answered
Chosen Option : 4

Q.15 यदि दो मिक्सर और एक टीवी का मूल्य Rs.700 है। जबकि दो टीवी और एक मिक्सर का मूल्य Rs.980 है, तो एक टीवी का मूल्य कितना है?

- Ans
- 1. Rs.450
 - 2. Rs.420
 - 3. Rs.400
 - 4. Rs.480

Question Type : MCQ
Question ID : 264330141043
Option 1 ID : 264330552521
Option 2 ID : 264330552520
Option 3 ID : 264330552519
Option 4 ID : 264330552522
Status : Answered
Chosen Option : 2

Q.16 यदि $(7x + y) : (7x - y) = 7 : 3$, तो $x : y$ का मान क्या है?

- Ans
- 1. 6 : 15
 - 2. 4 : 3
 - 3. 5 : 14
 - 4. 15 : 6

Question Type : MCQ
Question ID : 264330139084
Option 1 ID : 264330544945
Option 2 ID : 264330544946
Option 3 ID : 264330544943
Option 4 ID : 264330544944
Status : Answered
Chosen Option : 3

Q.17 दो अभाज्य संख्याओं X और Y का महत्तम समापवर्तक (HCF) क्या है?

- Ans
- 1. X
 - 2. 2
 - 3. Y
 - 4. 1

Question Type : MCQ
Question ID : 264330135370
Option 1 ID : 264330530389
Option 2 ID : 264330530388
Option 3 ID : 264330530390
Option 4 ID : 264330530387
Status : Answered
Chosen Option : 4

Q.18 Rs. 16,000 की राशि पर दो वर्ष के लिए चक्रवृद्धि ब्याज और साधारण ब्याज के बीच का अंतर Rs. 160 है। वार्षिक ब्याज दर ज्ञात कीजिए।

- Ans
- 1. 11%
 - 2. 12%
 - 3. 10%
 - 4. 15%

Question Type : MCQ
Question ID : 264330138425
Option 1 ID : 264330542308
Option 2 ID : 264330542310
Option 3 ID : 264330542307
Option 4 ID : 264330542309
Status : Answered
Chosen Option : 3

Q.19 एक आदमी एक बाइक को एक निश्चित मूल्य पर बेचकर 45 प्रतिशत का लाभ अर्जित करता है। यदि वह उस बाइक को दोगुने मूल्य पर बेचता है, तो उसका लाभ प्रतिशत क्या होगा?

- Ans
- ✓ 1. 190 प्रतिशत
 - ✗ 2. 90 प्रतिशत
 - ✗ 3. 80 प्रतिशत
 - ✗ 4. 180 प्रतिशत

Question Type : MCQ

Question ID : 264330139083

Option 1 ID : 264330544942

Option 2 ID : 264330544940

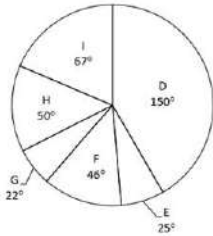
Option 3 ID : 264330544941

Option 4 ID : 264330544939

Status : Answered

Chosen Option : 1

Q.20 नीचे दिए गए वृत्त आलेख में एक वर्ष में छः कंपनियों द्वारा निर्मित ट्रकों की संख्या को दर्शाया गया है। इन सभी छः कंपनियों द्वारा निर्मित कुल ट्रक 1800 हैं। इनमें से किसी एक विशिष्ट कंपनी द्वारा निर्मित ट्रकों की संख्या को इन सभी छः कंपनियों द्वारा निर्मित ट्रकों की कुल संख्या के सापेक्ष डिग्री में दर्शाया गया है।



D और F द्वारा निर्मित कुल ट्रकों की संख्या, G और I द्वारा निर्मित कुल ट्रकों की संख्या का कितना प्रतिशत है?

- Ans
- ✗ 1. 140.2 प्रतिशत
 - ✓ 2. 220.2 प्रतिशत
 - ✗ 3. 260.4 प्रतिशत
 - ✗ 4. 234.3 प्रतिशत

Question Type : MCQ

Question ID : 264330139095

Option 1 ID : 264330544988

Option 2 ID : 264330544989

Option 3 ID : 264330544990

Option 4 ID : 264330544987

Status : Answered

Chosen Option : 2

Q.1 एक निश्चित कूट भाषा में, 'ACCENT' को 'CCATNE' लिखा जाता है। इस कूट भाषा में 'VENDOR' को कैसे लिखा जाएगा?

- Ans**
- 1. VENROD
 - 2. NEVROD
 - 3. NVEDOR
 - 4. NEVORD

Question Type : **MCQ**

Question ID : **264330138607**

Option 1 ID : **264330543037**

Option 2 ID : **264330543038**

Option 3 ID : **264330543036**

Option 4 ID : **264330543035**

Status : **Answered**

Chosen Option : **2**

Q.2 उस विकल्प को चुनिए जो पाँचवें पद से ठीक उसी प्रकार संबंधित है जिस प्रकार दूसरा पद पहले पद से संबंधित है और चौथा पद तीसरे पद से संबंधित है।

PRAY : UWFD :: MONK : RTSP :: FAIT : ?

- Ans**
- 1. KEMY
 - 2. KENY
 - 3. KFMY
 - 4. KFNY

Question Type : **MCQ**

Question ID : **264330138852**

Option 1 ID : **264330544017**

Option 2 ID : **264330544016**

Option 3 ID : **264330544018**

Option 4 ID : **264330544015**

Status : **Answered**

Chosen Option : **4**

Q.3 यदि एक दर्पण को रेखा AB पर रखा जाए, तो दिए गए विकल्पों में से कौन-सी आकृति प्रश्न आकृति का सही प्रतिबिम्ब होगी?



Ans

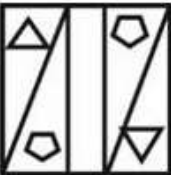
✓ 1.



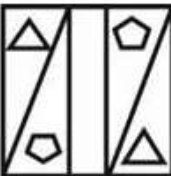
✗ 2.



✗ 3.



✗ 4.



Question Type : MCQ

Question ID : 264330137128

Option 1 ID : 264330537155

Option 2 ID : 264330537157

Option 3 ID : 264330537158

Option 4 ID : 264330537156

Status : Answered

Chosen Option : 1

Q.4 उस विकल्प को चुनिए जिसमें समुच्चय की संख्याएँ वही संबंध साझा करती हैं जो दिए गए समुच्चय में संख्याओं द्वारा साझा किया जाता है। (ध्यान दें: संख्याओं को उनके घटक अंकों में अलग-अलग किए बिना, पूर्ण संख्याओं पर संक्रियाएँ की जानी चाहिए। उदा. 13 - 13 पर संक्रियाएँ जैसे 13 को जोड़ना /घटाना /गुणा करना आदि किया जा सकता है। 13 को 1 और 3 में अलग-अलग करने और फिर 1 और 3 पर गणितीय संक्रियाएँ करने की अनुमति नहीं है)

(8, 27, 125)

(64, 1331, 1728)

- Ans**
- 1. (125, 172, 144)
 - 2. (289, 212, 196)
 - 3. (200, 215, 256)
 - 4. (216, 343, 512)

Question Type : **MCQ**

Question ID : **264330138865**

Option 1 ID : **264330544070**

Option 2 ID : **264330544069**

Option 3 ID : **264330544068**

Option 4 ID : **264330544067**

Status : **Answered**

Chosen Option : **4**

Q.5 सात लड़के J, K, L, M, N, P और Q एक वृत्ताकार मेज के चारों ओर केंद्र की ओर मुख करके बैठे हैं (परंतु जरूरी नहीं कि वे इसी क्रम में बैठें हों)। P, Q के दाईं ओर से दूसरे स्थान पर है। M, J और Q दोनों का निकटतम पड़ोसी है। L, Q का निकटतम पड़ोसी नहीं है। N, P के दाईं ओर से दूसरे स्थान पर है। L के ठीक बाईं ओर कौन है?

- Ans**
- 1. **P**
 - 2. **N**
 - 3. **J**
 - 4. **M**

Question Type : **MCQ**

Question ID : **264330138858**

Option 1 ID : **264330544039**

Option 2 ID : **264330544040**

Option 3 ID : **264330544041**

Option 4 ID : **264330544042**

Status : **Answered**

Chosen Option : **1**

Q.6 निम्नलिखित प्रश्न में कुछ कथन दिए गए हैं और उन कथनों के आधार पर कुछ निष्कर्ष दिए गए हैं। आपको मानना है कि दिए गए कथन सत्य हैं चाहे वे समान्यतः जात तथ्यों से अलग प्रतीत होते हों। सभी निष्कर्षों को पढ़िए और फिर निश्चय कीजिए कि दिए गए निष्कर्षों में से कौन-सा निष्कर्ष तार्किक रूप से दिए गए कथनों के अनुसार है।

कथन:

I. सभी H, G हैं।

II. कुछ G, I हैं।

निष्कर्ष:

I. कोई I, H नहीं है।

II. सभी I, G हैं।

Ans

- 1. केवल निष्कर्ष I कथनों के अनुसार है
- 2. केवल निष्कर्ष II कथनों के अनुसार है
- 3. कोई भी निष्कर्ष कथनों के अनुसार नहीं है
- 4. दोनों निष्कर्ष I और II कथनों के अनुसार हैं

Question Type : MCQ

Question ID : 264330138860

Option 1 ID : 264330544047

Option 2 ID : 264330544048

Option 3 ID : 264330544050

Option 4 ID : 264330544049

Status : Answered

Chosen Option : 3

Q.7 एक निश्चित कूट भाषा में, 'APPLE' को '25' लिखा जाता है और 'JUNIOR' को '36' लिखा जाता है। उस कूट भाषा में 'PACKAGE' को कैसे लिखा जाएगा?

Ans

- 1. 36
- 2. 49
- 3. 64
- 4. 81

Question Type : MCQ

Question ID : 264330137347

Option 1 ID : 264330538017

Option 2 ID : 264330538015

Option 3 ID : 264330538016

Option 4 ID : 264330538018

Status : Answered

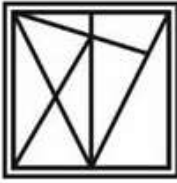
Chosen Option : 2

Q.8 उस विकल्प आकृति को चुनिए जिसमें दी गई आकृति निहित है। (घूर्णन की अनुमति नहीं है)

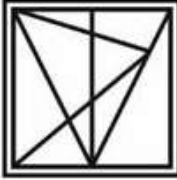


Ans

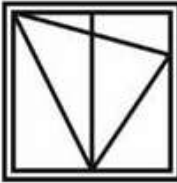
✗ 1.



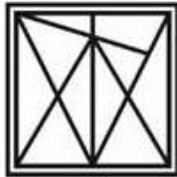
✗ 2.



✗ 3.



✓ 4.



Question Type : MCQ

Question ID : 264330137127

Option 1 ID : 264330537151

Option 2 ID : 264330537153

Option 3 ID : 264330537152

Option 4 ID : 264330537154

Status : Answered

Chosen Option : 4

Q.9 Words given on the left side of (::) are related with each other by some Logic/Rule/Relation. Select the missing word/word pair on the right side of (::) from the given alternatives based on the same Logic/Rule/Relation.

Electric Current : Ampere :: ?

Ans ✗ 1. Resistance : Seconds

✗ 2. Temperature : Watt

✓ 3. Force : Newton

✗ 4. Joule : Work

Question Type : MCQ

Question ID : 264330138853

Option 1 ID : 264330544020

Option 2 ID : 264330544022

Option 3 ID : 264330544021

Option 4 ID : 264330544019

Status : Answered

Chosen Option : 3

Q.10 उस विकल्प को चुनिए जो पाँचवी संख्या से ठीक उसी प्रकार संबंधित है जिस प्रकार दूसरी संख्या पहली संख्या से संबंधित है और चौथी संख्या तीसरी संख्या से संबंधित है।

7 : 36 :: 16 : 225 :: 21 : ?

- Ans
- 1. 441
 - 2. 385
 - 3. 395
 - 4. 400

Question Type : MCQ

Question ID : 264330138533

Option 1 ID : 264330542740

Option 2 ID : 264330542739

Option 3 ID : 264330542742

Option 4 ID : 264330542741

Status : Answered

Chosen Option : 4

Q.11 एक निश्चित कूट भाषा में, 'He is my nephew' को 'Co Pv Zs Mn' लिखा जाता है, 'That is my car' को 'Zs Pt Pv Ga' लिखा जाता है, 'He is your uncle' को 'Co Pv Ex Yz' लिखा जाता है। उस कूट भाषा में 'nephew' को कैसे लिखा जाएगा?

- Ans
- 1. Co
 - 2. Zs
 - 3. Mn
 - 4. Pv

Question Type : MCQ

Question ID : 264330133491

Option 1 ID : 264330522996

Option 2 ID : 264330522995

Option 3 ID : 264330522998

Option 4 ID : 264330522997

Status : Answered

Chosen Option : 3

Q.12 एक श्रृंखला दी गई है जिसमें एक पद लुप्त है। दिए गए विकल्पों में से उस सही विकल्प को चुनिए जो श्रृंखला को पूरा करेगा।
LAGB, NDIE, PGKH, RJMK, ?

- Ans
- 1. TMOM
 - 2. TMNO
 - 3. TNON
 - 4. TMON

Question Type : MCQ

Question ID : 264330138850

Option 1 ID : 264330544009

Option 2 ID : 264330544010

Option 3 ID : 264330544008

Option 4 ID : 264330544007

Status : Answered

Chosen Option : 4

Q.13 निम्नलिखित प्रश्न में, दी गई श्रृंखला में लुप्त संख्या को चुनिए।
108, 129, 104, ?, 100, 137, 96

- Ans
- 1. 140
 - 2. 138
 - 3. 133
 - 4. 135

Question Type : MCQ
Question ID : 264330138863
Option 1 ID : 264330544062
Option 2 ID : 264330544061
Option 3 ID : 264330544059
Option 4 ID : 264330544060
Status : Answered
Chosen Option : 3

Q.14 किन दो चिन्हों को आपस में बदलने पर निम्न समीकरण सही होगा?

$$15 + 5 \div 2 - 9 \times 3 = 22$$

- Ans
- 1. + और -
 - 2. \times और \div
 - 3. \div और +
 - 4. \times और -

Question Type : MCQ
Question ID : 264330138866
Option 1 ID : 264330544072
Option 2 ID : 264330544071
Option 3 ID : 264330544074
Option 4 ID : 264330544073
Status : Answered
Chosen Option : 2

Q.15 पाँच कारों C1, C2, C3, C4 और C5 की चाल की तुलना की जाती है। C1 की चाल केवल एक कार से अधिक है। C5 की चाल चार कारों से अधिक है। C4 की चाल C1 से अधिक लेकिन C3 और C5 से कम है। कितनी कारों की चाल C3 की चाल से कम है?

- Ans
- 1. 0
 - 2. 1
 - 3. 2
 - 4. 3

Question Type : MCQ
Question ID : 264330138859
Option 1 ID : 264330544046
Option 2 ID : 264330544045
Option 3 ID : 264330544043
Option 4 ID : 264330544044
Status : Answered
Chosen Option : 4

Q.16 सात लड़के राम, सुमित, सुनील, राहुल, राज, अमन और अमित एक वृत्ताकार मेज के चारों ओर केंद्र की ओर मुख करके बैठे हैं (परंतु जरूरी नहीं कि वे इसी क्रम में बैठें हों)। राज, अमन के दाईं ओर से दूसरे स्थान पर है। सुनील, अमन के बाईं ओर से तीसरे स्थान पर है। राम, अमन का निकटतम पड़ोसी नहीं है। अमित, राम के दाईं ओर से दूसरे स्थान पर है। राहुल, अमित का निकटतम पड़ोसी नहीं है। सुमित के बाईं ओर से तीसरे स्थान पर कौन है?

- Ans
- 1. सुनील
 - 2. राज
 - 3. राहुल
 - 4. राम

Question Type : MCQ

Question ID : 264330138857

Option 1 ID : 264330544038

Option 2 ID : 264330544036

Option 3 ID : 264330544035

Option 4 ID : 264330544037

Status : Answered

Chosen Option : 4

Q.17 दी गई दो संख्याओं को आपस में बदलने पर, निम्नलिखित में से कौनसा समीकरण सही होगा?

1 और 6

I. $7 - 5 + 1 \times 3 \div 6 = 20$

II. $1 \times 7 + 6 - 4 \div 2 = 40$

- Ans
- 1. केवल II
 - 2. न तो I और न ही II
 - 3. I और II दोनों
 - 4. केवल I

Question Type : MCQ

Question ID : 264330138578

Option 1 ID : 264330542920

Option 2 ID : 264330542922

Option 3 ID : 264330542921

Option 4 ID : 264330542919

Status : Answered

Chosen Option : 4

Q.18 निम्नलिखित प्रश्न में कुछ कथन दिए गए हैं और उन कथनों के आधार पर कुछ निष्कर्ष दिए गए हैं। आपको मानना है कि दिए गए कथन सत्य हैं चाहे वे समान्यतः जात तथ्यों से अलग प्रतीत होते हों। सभी निष्कर्षों को पढ़िए और फिर निश्चय कीजिए कि दिए गए निष्कर्षों में से कौन-सा निष्कर्ष तार्किक रूप से दिए गए कथनों के अनुसार है।
कथन:
I. सभी Z, Y हैं।
II. कुछ Y, B हैं।
निष्कर्ष:
I. कुछ B, Z नहीं हैं।
II. कुछ Y, Z नहीं हैं।
III. कुछ Z, Y हैं।

- Ans**
- 1. दोनों निष्कर्ष II और III कथनों के अनुसार हैं
 - 2. दोनों निष्कर्ष I और III कथनों के अनुसार हैं
 - 3. केवल निष्कर्ष III कथनों के अनुसार है
 - 4. सभी निष्कर्ष कथनों के अनुसार हैं


Question Type : **MCQ**
Question ID : **264330138861**
Option 1 ID : **264330544052**
Option 2 ID : **264330544053**
Option 3 ID : **264330544051**
Option 4 ID : **264330544054**
Status : **Answered**
Chosen Option : **3**

Q.19 निम्नलिखित प्रश्न में, दी गई श्रृंखला में लुप्त संख्या चुनिए ।
342, 365, 388,?, 434, 457

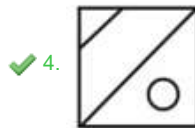
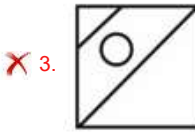
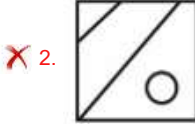
- Ans**
- 1. 425
 - 2. 430
 - 3. 435
 - 4. 411

Question Type : **MCQ**
Question ID : **264330138531**
Option 1 ID : **264330542732**
Option 2 ID : **264330542733**
Option 3 ID : **264330542734**
Option 4 ID : **264330542731**
Status : **Answered**
Chosen Option : **4**

Q.20 कौन-सी उत्तर आकृति प्रश्न आकृति में दिए गए पैटर्न को पूरा करेगी?



Ans



Question Type : MCQ

Question ID : 264330138870

Option 1 ID : 264330544088

Option 2 ID : 264330544090

Option 3 ID : 264330544089

Option 4 ID : 264330544087

Status : Answered

Chosen Option : 4

Section : General Awareness

Q.1 करगम लोक नृत्य किस राज्य से संबंधित है?

✗ 1. हरियाणा

✗ 2. राजस्थान

✓ 3. तमिलनाडु

✗ 4. असम

Question Type : MCQ

Question ID : 264330133975

Option 1 ID : 264330524925

Option 2 ID : 264330524926

Option 3 ID : 264330524923

Option 4 ID : 264330524924

Status : Answered

Chosen Option : 3

Q.2 ऐसे अपराध, जिनके लिए पुलिस न्यायालय के आदेश के बिना किसी व्यक्ति को गिरफ्तार कर सकती है, उसे _____ कहते हैं।

- Ans
- 1. असंज्ञेय अपराध (Non-Cognizable offences)
 - 2. क्रॉस अपराध (Cross offences)
 - 3. नजरबंदी अपराध (Detention offences)
 - 4. संज्ञेय अपराध (Cognizable offences)

Question Type : MCQ

Question ID : 264330138635

Option 1 ID : 264330543148

Option 2 ID : 264330543149

Option 3 ID : 264330543150

Option 4 ID : 264330543147

Status : Answered

Chosen Option : 3

Q.3 सोने की खदान के धंसने के कारण खबरों में रहा शिनजियांग (Xinjiang) प्रांत किस देश में स्थित है?

- Ans
- 1. उत्तर कोरिया
 - 2. जापान
 - 3. दक्षिण कोरिया
 - 4. चीन

Question Type : MCQ

Question ID : 264330138929

Option 1 ID : 264330544324

Option 2 ID : 264330544326

Option 3 ID : 264330544323

Option 4 ID : 264330544325

Status : Answered

Chosen Option : 4

Q.4 "मैग्नुस कार्लसन (Magnus Carlsen)" निम्नलिखित में से किस खेल से संबंधित हैं?

- Ans
- 1. शतरंज
 - 2. गोल्फ़
 - 3. मुक्केबाजी
 - 4. टेबल टेनिस

Question Type : MCQ

Question ID : 264330138300

Option 1 ID : 264330541808

Option 2 ID : 264330541809

Option 3 ID : 264330541810

Option 4 ID : 264330541807

Status : Answered

Chosen Option : 1

Q.5 18वीं शताब्दी में, ब्रिटेन में सूती कपड़ा उद्योग के विकास का क्या परिणाम हुआ?

- Ans
- ✓ 1. भारत में कपड़ा उत्पादन में गिरावट
 - ✗ 2. भारत में ब्रिटिश कपड़ा उद्योगों में गिरावट
 - ✗ 3. ब्रिटेन में भारतीय वस्त्रों की मांग में वृद्धि
 - ✗ 4. भारत में भारतीय वस्त्रों की मांग में वृद्धि

Question Type : MCQ
Question ID : 264330138647
Option 1 ID : 264330543198
Option 2 ID : 264330543197
Option 3 ID : 264330543195
Option 4 ID : 264330543196
Status : Not Answered
Chosen Option : --

Q.6 वर्ष 1982 के एशियाई खेलों की मेजबानी किस देश ने की थी?

- Ans
- ✗ 1. पाकिस्तान
 - ✓ 2. भारत
 - ✗ 3. चीन
 - ✗ 4. कतर

Question Type : MCQ
Question ID : 264330138924
Option 1 ID : 264330544304
Option 2 ID : 264330544305
Option 3 ID : 264330544303
Option 4 ID : 264330544306
Status : Not Answered
Chosen Option : --

Q.7 "एस्किमो (Eskimos)" किस भौगोलिक क्षेत्र से संबंधित हैं?

- Ans
- ✗ 1. सवाना घास के मैदान
 - ✗ 2. शुष्क क्षेत्र
 - ✗ 3. उष्णकटिबंधीय वर्षावन क्षेत्र
 - ✓ 4. ध्रुवीय क्षेत्र

Question Type : MCQ
Question ID : 264330138941
Option 1 ID : 264330544373
Option 2 ID : 264330544372
Option 3 ID : 264330544371
Option 4 ID : 264330544374
Status : Answered
Chosen Option : 4

Q.8 भारतीय संविधान की प्रस्तावना में, _____ किसी व्यक्ति की गरिमा को सुनिश्चित करता है।

- Ans
- 1. समानता
 - 2. स्वतंत्रता
 - 3. बंधुता
 - 4. न्याय

Question Type : MCQ

Question ID : 264330138933

Option 1 ID : 264330544341

Option 2 ID : 264330544340

Option 3 ID : 264330544342

Option 4 ID : 264330544339

Status : Answered

Chosen Option : 2

Q.9 अशोक के अभिलेखों के अनुसार निम्नलिखित में से कौनसा मगध साम्राज्य में एक प्रांतीय केंद्र नहीं था?

- Ans
- 1. तोसलि
 - 2. उज्जयिनी
 - 3. इंद्रप्रस्थ
 - 4. तक्षशिला

Question Type : MCQ

Question ID : 264330137049

Option 1 ID : 264330536841

Option 2 ID : 264330536840

Option 3 ID : 264330536842

Option 4 ID : 264330536839

Status : Answered

Chosen Option : 3

Q.10 The cells having well - organized nucleus with a nuclear membrane are designated as _____.

- Ans
- 1. Cheek cells
 - 2. prokaryotic cells
 - 3. eukaryotic cells
 - 4. autokaryotic cells

Question Type : MCQ

Question ID : 264330138310

Option 1 ID : 264330541847

Option 2 ID : 264330541848

Option 3 ID : 264330541850

Option 4 ID : 264330541849

Status : Answered

Chosen Option : 3

Q.11 विश्व बैंक वर्गीकरण (World Bank classification) 2020-2021 के अनुसार, भारत _____ की श्रेणी में आता है।

- Ans
- 1. उच्च आय वाले देश
 - 2. उच्च-मध्यम आय वाले देश
 - 3. निम्न-मध्यम आय वाले देश
 - 4. निम्न आय वाले देश

Question Type : MCQ

Question ID : 264330134068

Option 1 ID : 264330525297

Option 2 ID : 264330525295

Option 3 ID : 264330525296

Option 4 ID : 264330525298

Status : Answered

Chosen Option : 3

Q.12 भारतीय राष्ट्रीय कांग्रेस का पहला अधिवेशन _____ में आयोजित हुआ।

- Ans
- 1. कलकत्ता
 - 2. बंबई
 - 3. लाहौर
 - 4. सूरत

Question Type : MCQ

Question ID : 264330137052

Option 1 ID : 264330536854

Option 2 ID : 264330536853

Option 3 ID : 264330536852

Option 4 ID : 264330536851

Status : Answered

Chosen Option : 2

Q.13 Fungi can grow on which of the following items?

- I. Bread
- II. Pickles
- III. Leather
- IV. Clothes

Select the correct option.

- Ans
- 1. I, II and III
 - 2. I and II
 - 3. I and III
 - 4. I, II, III and IV

Question Type : MCQ
Question ID : 264330138934
Option 1 ID : 264330544345
Option 2 ID : 264330544343
Option 3 ID : 264330544344
Option 4 ID : 264330544346
Status : Answered
Chosen Option : 4

Q.14 किस प्रकार की कृषि में भूमि का उपयोग भोजन व चारे की फसलें उगाने और पशुधन पालन के लिए किया जाता है?

- Ans
- 1. दुग्ध कृषि
 - 2. मिश्रित कृषि
 - 3. रोपण कृषि
 - 4. वाणिज्यिक कृषि

Question Type : MCQ
Question ID : 264330133965
Option 1 ID : 264330524883
Option 2 ID : 264330524885
Option 3 ID : 264330524886
Option 4 ID : 264330524884
Status : Answered
Chosen Option : 2

Q.15 निम्नलिखित में से कौन-सा अरुणाचल प्रदेश का एक कृषि उत्सव है जो गालो जनजाति द्वारा मनाया जाता है?

- Ans
- 1. लोसर
 - 2. उगादि
 - 3. कर्मा
 - 4. मोपिन

Question Type : MCQ

Question ID : 264330137039

Option 1 ID : 264330536801

Option 2 ID : 264330536800

Option 3 ID : 264330536802

Option 4 ID : 264330536799

Status : Answered

Chosen Option : 4

Q.16 भारत में कितने जैवमण्डल आरक्षित क्षेत्र हैं?

- Ans
- 1. अठारह
 - 2. सोलह
 - 3. सत्रह
 - 4. उन्नीस

Question Type : MCQ

Question ID : 264330138939

Option 1 ID : 264330544365

Option 2 ID : 264330544363

Option 3 ID : 264330544364

Option 4 ID : 264330544366

Status : Answered

Chosen Option : 1

Q.17 वर्ष 2023 - 24 के बजट के अनुसार, सरकार द्वारा प्रत्येक 1 रुपए की प्राप्ति में कोरपोरेशन टैक्स (corporation tax) कितना होता है?

- Ans
- 1. 17 पैसे
 - 2. 7 पैसे
 - 3. 15 पैसे
 - 4. 4 पैसे

Question Type : MCQ

Question ID : 264330133980

Option 1 ID : 264330524946

Option 2 ID : 264330524945

Option 3 ID : 264330524943

Option 4 ID : 264330524944

Status : Not Answered

Chosen Option : --

Q.18 निम्नलिखित में से कौन तीन प्रमुख प्रकार की शैलों में से एक 'नहीं' है?

- Ans
- 1. आग्नेय शैल
 - 2. चुंबकीय शैल
 - 3. कायांतरित शैल
 - 4. अवसादी शैल

Question Type : MCQ
Question ID : 264330138311
Option 1 ID : 264330541851
Option 2 ID : 264330541852
Option 3 ID : 264330541854
Option 4 ID : 264330541853
Status : Answered
Chosen Option : 2

Q.19 'द रेस ऑफ माई लाइफ (The Race of My Life)' प्रसिद्ध भारतीय खिलाड़ी _____ की आत्मकथा है।

- Ans
- 1. कपिल देव
 - 2. मिल्खा सिंह
 - 3. सानिया मिर्जा
 - 4. युवराज सिंह

Question Type : MCQ
Question ID : 264330133973
Option 1 ID : 264330524915
Option 2 ID : 264330524916
Option 3 ID : 264330524918
Option 4 ID : 264330524917
Status : Answered
Chosen Option : 2

Q.20 खजुराहो के मंदिर किस राजवंश के दौरान बनाए गए थे?

- Ans
- 1. नंद वंश
 - 2. चंदेल वंश
 - 3. विजयनगर वंश
 - 4. मौर्य वंश

Question Type : MCQ
Question ID : 264330138626
Option 1 ID : 264330543112
Option 2 ID : 264330543113
Option 3 ID : 264330543114
Option 4 ID : 264330543111
Status : Answered
Chosen Option : 2

Q.21 गैर नृत्य राजस्थान के _____ समुदाय द्वारा किया जाता है।

- Ans
- 1. गुज्जर
 - 2. जाट
 - 3. भील
 - 4. गोंड

Question Type : MCQ
Question ID : 264330138921
Option 1 ID : 264330544292
Option 2 ID : 264330544294
Option 3 ID : 264330544293
Option 4 ID : 264330544291
Status : Answered
Chosen Option : 3

Q.22 दक्कन में मराठों द्वारा वसूले जाने वाले भू-राजस्व के 25 प्रतिशत को _____ कहा जाता था।

- Ans
- 1. चौथ
 - 2. भोग
 - 3. भाग
 - 4. सरदेशमुखी

Question Type : MCQ
Question ID : 264330138318
Option 1 ID : 264330541881
Option 2 ID : 264330541880
Option 3 ID : 264330541882
Option 4 ID : 264330541879
Status : Answered
Chosen Option : 4

Q.23 इलियास खान का जन्म लखनऊ के संगीतकारों के घराने में हुआ था। वह _____ बजाने के लिए जाने जाते थे।

- Ans
- 1. सितार
 - 2. वीना
 - 3. तबला
 - 4. मृदंगम

Question Type : MCQ
Question ID : 264330138927
Option 1 ID : 264330544315
Option 2 ID : 264330544316
Option 3 ID : 264330544318
Option 4 ID : 264330544317
Status : Not Answered
Chosen Option : --

Q.24 मानव शरीर का सामान्य तापमान _____ होता है।

- Ans 1. 37° C
 2. 32° C
 3. 31° C
 4. 34° C

Question Type : MCQ
Question ID : 264330138312
Option 1 ID : 264330541858
Option 2 ID : 264330541856
Option 3 ID : 264330541855
Option 4 ID : 264330541857
Status : Answered
Chosen Option : 1

Q.25 अगस्त 2022 में, भारत के प्रधानमंत्री ने _____ में होमी भाभा कैंसर अस्पताल का उद्घाटन किया।

- Ans 1. मोहाली
 2. नई दिल्ली
 3. चेन्नई
 4. पुणे

Question Type : MCQ
Question ID : 264330138930
Option 1 ID : 264330544327
Option 2 ID : 264330544330
Option 3 ID : 264330544329
Option 4 ID : 264330544328
Status : Answered
Chosen Option : 1

Section : English Language and Comprehension

Q.1 Find the part of the given sentence that has an error in it. If there is no error, choose 'No error'.
Adding aloe vera gel will prevent the hand sanitizer of drying out your skin.

- Ans 1. No error
 2. will prevent the hand sanitizer of
 3. Adding aloe vera gel
 4. drying out your skin.

Question Type : MCQ
Question ID : 264330136875
Option 1 ID : 264330536190
Option 2 ID : 264330536188
Option 3 ID : 264330536187
Option 4 ID : 264330536189
Status : Answered
Chosen Option : 2

Q.2 Choose the word that can substitute the given group of words.

The young of a frog

- Ans
- ✓ 1. Tadpole
 - ✗ 2. Kitten
 - ✗ 3. Antelope
 - ✗ 4. Pup

Question Type : **MCQ**
Question ID : **264330136888**
Option 1 ID : **264330536238**
Option 2 ID : **264330536237**
Option 3 ID : **264330536236**
Option 4 ID : **264330536235**
Status : **Answered**
Chosen Option : 1

Q.3 Select the most appropriate option to fill in the blank.

Wheat is widely _____ but the output is not large.

- Ans
- ✗ 1. gross
 - ✗ 2. groan
 - ✓ 3. grown
 - ✗ 4. grilled

Question Type : **MCQ**
Question ID : **264330135332**
Option 1 ID : **264330530235**
Option 2 ID : **264330530237**
Option 3 ID : **264330530238**
Option 4 ID : **264330530236**
Status : **Answered**
Chosen Option : 3

Q.4 Select the appropriate synonym for the underlined word.

Make sure that you always challenge yourself.

- Ans
- ✗ 1. Approve
 - ✗ 2. Carry
 - ✗ 3. Place
 - ✓ 4. Question

Question Type : **MCQ**
Question ID : **264330136889**
Option 1 ID : **264330536241**
Option 2 ID : **264330536239**
Option 3 ID : **264330536242**
Option 4 ID : **264330536240**
Status : **Answered**
Chosen Option : 4

Q.5 Select the most appropriate word for the given group of words.

Tending to associate with others of one's kind

- Ans**
- 1. Pungent
 - 2. Venial
 - 3. Gregarious
 - 4. Pedantic

Question Type : **MCQ**
Question ID : **264330136679**
Option 1 ID : **264330535434**
Option 2 ID : **264330535433**
Option 3 ID : **264330535431**
Option 4 ID : **264330535432**
Status : **Answered**
Chosen Option : **2**

Q.6 Select the most appropriate antonym of the given word.

Viscous

- Ans**
- 1. Watery
 - 2. Grim
 - 3. Brutal
 - 4. Thick

Question Type : **MCQ**
Question ID : **264330136735**
Option 1 ID : **264330535649**
Option 2 ID : **264330535648**
Option 3 ID : **264330535647**
Option 4 ID : **264330535650**
Status : **Not Answered**
Chosen Option : **--**

Q.7 In the following question, out of the given four alternatives, select the alternative which best expresses the meaning of the Idiom/Phrase.

A blind spot

- Ans**
- 1. A person who is blind
 - 2. A situation where no progress is made
 - 3. A person with no emotional feelings
 - 4.

An area in your range of vision that you cannot see properly

Question Type : **MCQ**
Question ID : **264330136894**
Option 1 ID : **264330536262**
Option 2 ID : **264330536261**
Option 3 ID : **264330536260**
Option 4 ID : **264330536259**
Status : **Answered**
Chosen Option : **2**

Q.8 Fill in the blank with the most appropriate choice.

His intent was to become sole lord and to _____ his tiny principality.

- Ans
- 1. subsidize
 - 2. jeopardize
 - 3. methodize
 - 4. aggrandize

Question Type : MCQ
Question ID : 264330135774
Option 1 ID : 264330531975
Option 2 ID : 264330531978
Option 3 ID : 264330531976
Option 4 ID : 264330531977
Status : Answered
Chosen Option : 3

Q.9 Find the part of the given sentence that has an error in it. If there is no error, choose 'No error'.

In my opinion, you should went for higher studies in London.

- Ans
- 1. No error
 - 2. In my opinion,
 - 3. you should went for
 - 4. higher studies in London.

Question Type : MCQ
Question ID : 264330135257
Option 1 ID : 264330529950
Option 2 ID : 264330529947
Option 3 ID : 264330529948
Option 4 ID : 264330529949
Status : Answered
Chosen Option : 3

Q.10 Improve the underlined part of the sentence. Choose 'No improvement' as an answer if the sentence is grammatically correct.

That movie is so sad; the ending always makes me bawling.

- Ans
- 1. made me bawl
 - 2. No improvement
 - 3. makes me bawl
 - 4. makes me bawled

Question Type : MCQ
Question ID : 264330136877
Option 1 ID : 264330536195
Option 2 ID : 264330536198
Option 3 ID : 264330536197
Option 4 ID : 264330536196
Status : Answered
Chosen Option : 3

Q.11 Improve the underlined part of the sentence. Choose 'No improvement' as an answer if the sentence is grammatically correct.

It is the most effective means of mass communication.

- Ans**
- 1. the most effectively
 - 2. a most effectives
 - 3. a most effecting
 - 4. No improvement

Question Type : **MCQ**
Question ID : **264330141162**
Option 1 ID : **264330552992**
Option 2 ID : **264330552991**
Option 3 ID : **264330552993**
Option 4 ID : **264330552994**
Status : **Answered**
Chosen Option : **4**

Q.12 Choose the sentence with no spelling error.

- Ans**
- 1. Protest is also a safety valvve.
 - 2. Protest is also a saffety valve.
 - 3. Protast is also a safety valve.
 - 4. Protest is also a safety valve.

Question Type : **MCQ**
Question ID : **264330135331**
Option 1 ID : **264330530234**
Option 2 ID : **264330530232**
Option 3 ID : **264330530231**
Option 4 ID : **264330530233**
Status : **Answered**
Chosen Option : **4**

Q.13 Select the most appropriate synonym to substitute the bracketed word in the given sentence.

In the twentieth century, many (radical) intellectuals embraced the mass media.

- Ans**
- 1. sabbatical
 - 2. egotistical
 - 3. sceptical
 - 4. fanatical

Question Type : **MCQ**
Question ID : **264330135784**
Option 1 ID : **264330532012**
Option 2 ID : **264330532014**
Option 3 ID : **264330532011**
Option 4 ID : **264330532013**
Status : **Answered**
Chosen Option : **4**

Q.14 Find the part of the given sentence that has an error in it. If there is no error, choose 'No error'.
Restoring soil health would help at mitigate the effects of climate change.

- Ans**
- ✓ 1. help at mitigate the
 - ✗ 2. Restoring soil health would
 - ✗ 3. effects of climate change.
 - ✗ 4. No error

Question Type : **MCQ**
Question ID : **264330136874**
Option 1 ID : **264330536184**
Option 2 ID : **264330536183**
Option 3 ID : **264330536185**
Option 4 ID : **264330536186**
Status : **Answered**
Chosen Option : **1**

Q.15 Select the most appropriate option to substitute the bracketed segment in the given sentence. If there is no need to substitute it, select 'no substitution required'.
The unit twitched like a bird (preening it's plumage and becomes motionless).

- Ans**
- ✗ 1. No substitution required
 - ✓ 2. preening its plumage and became motionless
 - ✗ 3. to preen it's plumage and becomes motionless
 - ✗ 4. preening it's plumage while becoming motionless

Question Type : **MCQ**
Question ID : **264330135770**
Option 1 ID : **264330531962**
Option 2 ID : **264330531959**
Option 3 ID : **264330531960**
Option 4 ID : **264330531961**
Status : **Answered**
Chosen Option : **2**

Q.16 Select the appropriate antonym for the underlined word.
The arms and legs lay in a careless way.

- Ans**
- ✗ 1. Forgetful
 - ✗ 2. Unsafe
 - ✗ 3. Neglectful
 - ✓ 4. Vigilant

Question Type : **MCQ**
Question ID : **264330136892**
Option 1 ID : **264330536254**
Option 2 ID : **264330536253**
Option 3 ID : **264330536251**
Option 4 ID : **264330536252**
Status : **Answered**
Chosen Option : **4**

Q.17 Select the most appropriate meaning of the given idiom.

Get down to brass tacks

- Ans
- 1. Compromise, cooperation between people
 - 2. To become serious about something
 - 3. Get fired from the job
 - 4. To be ready

Question Type : **MCQ**
Question ID : **264330136685**
Option 1 ID : **264330535457**
Option 2 ID : **264330535455**
Option 3 ID : **264330535456**
Option 4 ID : **264330535458**
Status : **Answered**
Chosen Option : **2**

Q.18 Select the most appropriate option to fill in the blank.

Police used _____ evidence to convict a victim who was innocent.

- Ans
- 1. stunted
 - 2. authentic
 - 3. hateful
 - 4. fabricated

Question Type : **MCQ**
Question ID : **264330136898**
Option 1 ID : **264330536275**
Option 2 ID : **264330536278**
Option 3 ID : **264330536276**
Option 4 ID : **264330536277**
Status : **Answered**
Chosen Option : **2**

Q.19 Choose the incorrectly spelt word.

- Ans
- 1. Locker
 - 2. Rift
 - 3. Tihgt
 - 4. Stock

Question Type : **MCQ**
Question ID : **264330136895**
Option 1 ID : **264330536265**
Option 2 ID : **264330536263**
Option 3 ID : **264330536266**
Option 4 ID : **264330536264**
Status : **Answered**
Chosen Option : **3**

Q.20 A sentence has been given with a blank to be filled with an appropriate option. Choose the correct alternative.
The person driving the car _____ control over the wheels and knocked her down.

- Ans**
- 1. loose
 - 2. losing
 - 3. lost
 - 4. lose

Question Type : **MCQ**
Question ID : **264330136879**
Option 1 ID : **264330536205**
Option 2 ID : **264330536206**
Option 3 ID : **264330536204**
Option 4 ID : **264330536203**
Status : **Answered**
Chosen Option : **3**

Comprehension:

In the following passage some words have been deleted. Fill in the blanks with the help of the alternatives given. Select the most appropriate option for each number.

Salvador Dali (1) _____ a prominent Spanish surrealist painter (2) _____ in Figueres, Catalonia, on 11 May 1904. Dali's father was strict in the education of his children unlike (3) _____ mother. Dali had a brother named Salvador (4) _____ was born nine months before him and died of gastroenteritis. When he was five, Dalí was taken to his brother's grave and was told that he was his brother's (5) _____.

SubQuestion No : 21

Q.21 Select the most appropriate option to fill in the blank No. 1.

- Ans**
- 1. has
 - 2. is
 - 3. was
 - 4. were

Question Type : **MCQ**
Question ID : **264330136726**
Option 1 ID : **264330535614**
Option 2 ID : **264330535611**
Option 3 ID : **264330535612**
Option 4 ID : **264330535613**
Status : **Answered**
Chosen Option : **3**

Comprehension:

In the following passage some words have been deleted. Fill in the blanks with the help of the alternatives given. Select the most appropriate option for each number.

Salvador Dali (1) _____ a prominent Spanish surrealist painter (2) _____ in Figueres, Catalonia, on 11 May 1904. Dali's father was strict in the education of his children unlike (3) _____ mother. Dali had a brother named Salvador (4) _____ was born nine months before him and died of gastroenteritis. When he was five, Dali was taken to his brother's grave and was told that he was his brother's (5) _____.

SubQuestion No : 22

Q.22 Select the most appropriate option to fill in the blank No. 2.

- Ans
- 1. bought
 - 2. rooted
 - 3. born
 - 4. brought

Question Type : **MCQ**

Question ID : **264330136727**

Option 1 ID : **264330535617**

Option 2 ID : **264330535618**

Option 3 ID : **264330535615**

Option 4 ID : **264330535616**

Status : **Answered**

Chosen Option : **3**

Comprehension:

In the following passage some words have been deleted. Fill in the blanks with the help of the alternatives given. Select the most appropriate option for each number.

Salvador Dali (1) _____ a prominent Spanish surrealist painter (2) _____ in Figueres, Catalonia, on 11 May 1904. Dali's father was strict in the education of his children unlike (3) _____ mother. Dali had a brother named Salvador (4) _____ was born nine months before him and died of gastroenteritis. When he was five, Dali was taken to his brother's grave and was told that he was his brother's (5) _____.

SubQuestion No : 23

Q.23 Select the most appropriate option to fill in the blank No. 3.

- Ans
- 1. her
 - 2. him
 - 3. their
 - 4. his

Question Type : **MCQ**

Question ID : **264330136728**

Option 1 ID : **264330535622**

Option 2 ID : **264330535621**

Option 3 ID : **264330535619**

Option 4 ID : **264330535620**

Status : **Answered**

Chosen Option : **1**

Comprehension:

In the following passage some words have been deleted. Fill in the blanks with the help of the alternatives given. Select the most appropriate option for each number.

Salvador Dali (1) _____ a prominent Spanish surrealist painter (2) _____ in Figueres, Catalonia, on 11 May 1904. Dali's father was strict in the education of his children unlike (3) _____ mother. Dali had a brother named Salvador (4) _____ was born nine months before him and died of gastroenteritis. When he was five, Dali was taken to his brother's grave and was told that he was his brother's (5) _____.

SubQuestion No : 24

Q.24 Select the most appropriate option to fill in the blank No. 4.

- Ans
- 1. who
 - 2. whose
 - 3. that
 - 4. whom

Question Type : MCQ

Question ID : 264330136729

Option 1 ID : 264330535623

Option 2 ID : 264330535625

Option 3 ID : 264330535626

Option 4 ID : 264330535624

Status : Answered

Chosen Option : 1

Comprehension:

In the following passage some words have been deleted. Fill in the blanks with the help of the alternatives given. Select the most appropriate option for each number.

Salvador Dali (1) _____ a prominent Spanish surrealist painter (2) _____ in Figueres, Catalonia, on 11 May 1904. Dali's father was strict in the education of his children unlike (3) _____ mother. Dali had a brother named Salvador (4) _____ was born nine months before him and died of gastroenteritis. When he was five, Dali was taken to his brother's grave and was told that he was his brother's (5) _____.

SubQuestion No : 25

Q.25 Select the most appropriate option to fill in the blank No. 5.

- Ans
- 1. ordination
 - 2. detonation
 - 3. reincarnation
 - 4. stagnation

Question Type : MCQ

Question ID : 264330136730

Option 1 ID : 264330535627

Option 2 ID : 264330535628

Option 3 ID : 264330535630

Option 4 ID : 264330535629

Status : Answered

Chosen Option : 3

Multi Tasking Non Technical Staff and Havaladar CBIC and CBN Examination 2022

Roll Number	KD Job Updates
Candidate Name	KD Job Updates
Venue Name	TCS Gito Bitan
Exam Date	02/05/2023
Exam Time	12:00 PM - 2:00 PM
Subject	MTS Non Tech Havaladar CBIC and CBN Examination 2022

Section : Numerical and Mathematical Ability

Q.1 एक व्यक्ति ने 150 कुर्सियाँ बेचीं और उसे 25 कुर्सियों के विक्रय मूल्य के बराबर लाभ हुआ। उसका लाभ प्रतिशत ज्ञात कीजिए।

- Ans
- 1. 13%
 - 2. 15%
 - 3. 20%
 - 4. 18%

Question Type : MCQ

Question ID : 264330135071

Option 1 ID : 264330529222

Option 2 ID : 264330529219

Option 3 ID : 264330529220

Option 4 ID : 264330529221

Status : Answered

Chosen Option : 3

Q.2 एक परिवार के 6 सदस्यों की औसत आयु 20 वर्ष है। यदि नौकर की आयु को भी जोड़ लिया जाए, तो औसत आयु में 20 प्रतिशत की वृद्धि हो जाती है। नौकर की आयु कितनी है?

- Ans
- 1. 50 वर्ष
 - 2. 56 वर्ष
 - 3. 52 वर्ष
 - 4. 48 वर्ष

Question Type : MCQ

Question ID : 264330139000

Option 1 ID : 264330544610

Option 2 ID : 264330544609

Option 3 ID : 264330544607

Option 4 ID : 264330544608

Status : Answered

Chosen Option : 4

Q.3 एक बगीचे की सफाई में 6 घंटे का समय लगता है। 2 घंटे 30 मिनट में बगीचे का कितना हिस्सा साफ किया जा सकता है?

- Ans
- 1. $\frac{5}{8}$
 - 2. $\frac{5}{12}$
 - 3. $\frac{5}{6}$
 - 4. $\frac{5}{2}$

Question Type : MCQ

Question ID : 264330133829

Option 1 ID : 264330524342

Option 2 ID : 264330524339

Option 3 ID : 264330524341

Option 4 ID : 264330524340

Status : Answered

Chosen Option : 2

Q.4 $(0.18 \div 0.9 + 0.8) \times 0.001$ का मान है:

- Ans
- 1. 0.001
 - 2. 0.1
 - 3. 0.01
 - 4. 1.001

Question Type : MCQ

Question ID : 264330133627

Option 1 ID : 264330523532

Option 2 ID : 264330523534

Option 3 ID : 264330523533

Option 4 ID : 264330523531

Status : Answered

Chosen Option : 1

Q.5 दो संख्याएँ 11:6 के अनुपात में हैं। यदि उनका महत्तम समापवर्तक (HCF) 4 है, तो सबसे छोटी संख्या ज्ञात कीजिए।

- Ans
- 1. 12
 - 2. 18
 - 3. 30
 - 4. 24

Question Type : MCQ

Question ID : 264330135132

Option 1 ID : 264330529464

Option 2 ID : 264330529465

Option 3 ID : 264330529466

Option 4 ID : 264330529463

Status : Answered

Chosen Option : 4

Q.6 Rs.14136 की राशि को A, B और C के बीच इस प्रकार बाँटिए कि A के हिस्से का 2 गुना, B के हिस्से का 3 गुना और C के हिस्से का 5 गुना सभी बराबर हों। C का हिस्सा कितना है?

- Ans
- 1. Rs.456
 - 2. Rs.1413
 - 3. Rs.2736
 - 4. Rs.3680

Question Type : MCQ

Question ID : 264330133636

Option 1 ID : 264330523567

Option 2 ID : 264330523568

Option 3 ID : 264330523569

Option 4 ID : 264330523570

Status : Answered

Chosen Option : 3

Q.7 जब एक तार को एक वर्ग के आकार में मोड़ा जाता है, तो इसके द्वारा परिबद्ध क्षेत्रफल 5929 cm^2 होता है। यदि तार को एक वृत्त के आकार में मोड़ा जाए, तो तार द्वारा परिबद्ध क्षेत्रफल कितना होगा?

- Ans
- 1. 7546 cm^2
 - 2. 8542 cm^2
 - 3. 7632 cm^2
 - 4. 6954 cm^2

Question Type : MCQ

Question ID : 264330138029

Option 1 ID : 264330540725

Option 2 ID : 264330540726

Option 3 ID : 264330540724

Option 4 ID : 264330540723

Status : Answered

Chosen Option : 2

Q.8 यदि $A + \{5 \times 8 \div 2^2\} \times 11 = 134$, तो A का मान क्या है?

- Ans
- 1. 4
 - 2. 14
 - 3. 24
 - 4. 34

Question Type : MCQ

Question ID : 264330138036

Option 1 ID : 264330540751

Option 2 ID : 264330540752

Option 3 ID : 264330540753

Option 4 ID : 264330540754

Status : Answered

Chosen Option : 3

Q.9 एक धनराशि पर 7 वर्षों में 6% वार्षिक दर पर Rs. 3360 का साधारण ब्याज प्राप्त होता है। वह धनराशि ज्ञात कीजिए।

- Ans
- 1. Rs. 9500
 - 2. Rs. 6000
 - 3. Rs. 8000
 - 4. Rs. 7500

Question Type : MCQ

Question ID : 264330135142

Option 1 ID : 264330529506

Option 2 ID : 264330529503

Option 3 ID : 264330529505

Option 4 ID : 264330529504

Status : Answered

Chosen Option : 3

Q.10 दो संख्याओं का अनुपात 5 : 9 है। यदि बड़ी संख्या में 6 जोड़ा जाए और छोटी संख्या में से 6 घटाया जाए, तो बड़ी संख्या छोटी संख्या का 6 गुना हो जाती है। संख्याएँ क्या हैं?

- Ans
- 1. 20 और 36
 - 2. 15 और 27
 - 3. 10 और 18
 - 4. 25 और 45

Question Type : MCQ

Question ID : 264330133635

Option 1 ID : 264330523564

Option 2 ID : 264330523563

Option 3 ID : 264330523565

Option 4 ID : 264330523566

Status : Answered

Chosen Option : 3

Q.11 अंकित मूल्य क्रय मूल्य से 10% अधिक है। अंकित मूल्य पर 10% का बट्टा दिया जाता है। लाभ या हानि प्रतिशत क्या है?

- Ans
- 1. 1% लाभ
 - 2. 1% हानि
 - 3. 5% लाभ
 - 4. 5% हानि

Question Type : MCQ

Question ID : 264330133634

Option 1 ID : 264330523560

Option 2 ID : 264330523559

Option 3 ID : 264330523562

Option 4 ID : 264330523561

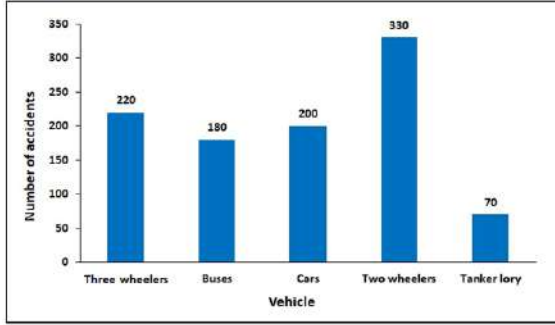
Status : Answered

Chosen Option : 2

Q.12 निम्नलिखित दंड आलेख में वर्ष 2021 के दौरान एक शहर में हुई दुर्घटनाओं की संख्या को दर्शाया गया है।

B = दुपहिया वाहनों और बसों की दुर्घटनाओं में अंतर।

B, कुल दुर्घटनाओं का कितना प्रतिशत है?



Number of accidents = दुर्घटनाओं की संख्या Buses = बस Two wheelers = दुपहिया वाहन Vehicle = वाहन

Ans 1. 15%

2. 18%

3. 10%

4. 33%

Question Type : MCQ

Question ID : 264330133643

Option 1 ID : 264330523596

Option 2 ID : 264330523598

Option 3 ID : 264330523597

Option 4 ID : 264330523595

Status : Answered

Chosen Option : 1

Q.13 3.6 मीटर परिमाण वाले अर्धवृत्त का क्षेत्रफल क्या होगा?

Ans 1. 0.77 m^2

2. 1.54 m^2

3. 1.76 m^2

4. 1.10 m^2

Question Type : MCQ

Question ID : 264330133834

Option 1 ID : 264330524359

Option 2 ID : 264330524362

Option 3 ID : 264330524361

Option 4 ID : 264330524360

Status : Answered

Chosen Option : 3

Q.14 एक सेंटर टेबल को Rs.13440 में बेचने पर अर्जित लाभ प्रतिशत समान सेंटर टेबल को Rs.10560 में बेचने पर हुई हानि के प्रतिशत के बराबर है। 20% का लाभ अर्जित करने के लिए इस टेबल को किस मूल्य पर बेचा जाना चाहिए?

- Ans 1. Rs.14400
 2. Rs.18000
 3. Rs.24000
 4. Rs.12000

Question Type : MCQ

Question ID : 264330133633

Option 1 ID : 264330523556

Option 2 ID : 264330523558

Option 3 ID : 264330523557

Option 4 ID : 264330523555

Status : Answered

Chosen Option : 1

Q.15 ग्यारह दोस्तों में हर एक ने एक दूर पर Rs. 18 खर्च किए और बारहवें दोस्त ने उन सभी बारह दोस्तों के औसत खर्च से Rs. 11 कम खर्च किए। बारह दोस्तों द्वारा खर्च की गई कुल धनराशि कितनी है?

- Ans 1. Rs.212
 2. Rs.208
 3. Rs.204
 4. Rs.215

Question Type : MCQ

Question ID : 264330137178

Option 1 ID : 264330537355

Option 2 ID : 264330537356

Option 3 ID : 264330537358

Option 4 ID : 264330537357

Status : Answered

Chosen Option : 3

Q.16 नीचे दी गई तालिका में वर्ष 2014 से 2017 के बीच दो कंपनियों द्वारा बेचे गए म्यूजिक सिस्टम की संख्या को दर्शाया गया है।

कंपनी A और कंपनी B की औसत बिक्री में कितना अंतर है?

Year	Company A	Company B
2014	5640	6980
2015	8412	10512
2016	7148	8620
2017	8424	10020

Year - वर्ष, Company A - कंपनी A, Company B - कंपनी B

- Ans 1. 1627
 2. 7406
 3. 9033
 4. 2016

Question Type : MCQ

Question ID : 264330138052

Option 1 ID : 264330540815

Option 2 ID : 264330540817

Option 3 ID : 264330540816

Option 4 ID : 264330540818

Status : Answered

Chosen Option : 4

Q.17 एक पुलिसकर्मी को एक चोर 150 m की दूरी पर दिखाई देता है। चोर भागने लगता है और पुलिसकर्मी उसका पीछा करता है। चोर और पुलिसकर्मी क्रमशः 8 kmph और 10 kmph की चाल से दौड़ते हैं। पुलिसकर्मी चोर को कितनी दूरी पर पकड़ लेगा?

- Ans
- ✓ 1. 750 मीटर
 - ✗ 2. 1000 मीटर
 - ✗ 3. 500 मीटर
 - ✗ 4. 850 मीटर

Question Type : MCQ

Question ID : 264330133639

Option 1 ID : 264330523581

Option 2 ID : 264330523579

Option 3 ID : 264330523580

Option 4 ID : 264330523582

Status : Answered

Chosen Option : 1

Q.18 Rs. 7205 को चक्रवृद्धि ब्याज (वार्षिक रूप से संयोजित) की एक योजना में निवेश किया जाता है। यदि ब्याज दर 20% वार्षिक है, तो 1 वर्ष में अर्जित ब्याज (Rs में) कितना है?

- Ans
- ✗ 1. Rs. 1544
 - ✗ 2. Rs. 1540
 - ✗ 3. Rs. 1422
 - ✓ 4. Rs. 1441

Question Type : MCQ

Question ID : 264330135143

Option 1 ID : 264330529508

Option 2 ID : 264330529509

Option 3 ID : 264330529510

Option 4 ID : 264330529507

Status : Answered

Chosen Option : 4

Q.19 10 संख्याओं का औसत 42 है। यदि प्रत्येक संख्या में 5 की वृद्धि कर दी जाए, तो नया औसत क्या होगा?

- Ans
- ✗ 1. 57
 - ✗ 2. 42
 - ✗ 3. 92
 - ✓ 4. 47

Question Type : MCQ

Question ID : 264330133629

Option 1 ID : 264330523540

Option 2 ID : 264330523541

Option 3 ID : 264330523539

Option 4 ID : 264330523542

Status : Answered

Chosen Option : 4

Q.20 यदि किसी संख्या का 33.33%, 16 में जोड़ा जाता है, तो परिणाम वही संख्या होती है। वह संख्या ज्ञात कीजिए।

- Ans
- 1. 30
 - 2. 36
 - 3. 24
 - 4. 33

Question Type : MCQ

Question ID : 264330135136

Option 1 ID : 264330529482

Option 2 ID : 264330529480

Option 3 ID : 264330529481

Option 4 ID : 264330529479

Status : Answered

Chosen Option : 3

Section : Reasoning Ability and Problem Solving

Q.1 एक निश्चित कूट भाषा में, 'ACTOR' को '52' लिखा जाता है और 'PACK' को '27' लिखा जाता है। उस कूट भाषा में 'SEVEN' को कैसे लिखा जाएगा?

- Ans
- 1. 72
 - 2. 60
 - 3. 65
 - 4. 59

Question Type : MCQ

Question ID : 264330137350

Option 1 ID : 264330538030

Option 2 ID : 264330538028

Option 3 ID : 264330538027

Option 4 ID : 264330538029

Status : Answered

Chosen Option : 4

Q.2 पाँच मित्र X, Y, Z, A और B एक परिधि में केंद्र की ओर मुख करके बैठे हैं। X, Y के ठीक बाएँ पर और Z के ठीक दाएँ पर है। B, A के ठीक दाएँ पर है। A के ठीक बाएँ पर कौन है?

- Ans
- 1. Z
 - 2. X
 - 3. Y
 - 4. B

Question Type : MCQ

Question ID : 264330133373

Option 1 ID : 264330522525

Option 2 ID : 264330522524

Option 3 ID : 264330522523

Option 4 ID : 264330522526

Status : Answered

Chosen Option : 3

Q.3 पाँच मित्र अमन, बिराज, चमन, सौरव और राजेश एक वृत्ताकार मेज़ के चारों ओर केंद्र की ओर मुख करके बैठे हैं। अमन, चमन के ठीक दाएँ पर है, जो सौरव के दाएँ से दूसरे स्थान पर है। बिराज, चमन के ठीक बाएँ पर है। अमन के दाएँ से दूसरे स्थान पर कौन है?

- Ans
- ✓ 1. सौरव
 - ✗ 2. राजेश
 - ✗ 3. बिराज
 - ✗ 4. चमन

Question Type : MCQ
Question ID : 264330133372
Option 1 ID : 264330522519
Option 2 ID : 264330522521
Option 3 ID : 264330522522
Option 4 ID : 264330522520
Status : Answered
Chosen Option : 2

Q.4 दी गई श्रृंखला में निम्नलिखित में से कौन-सी संख्या प्रश्न चिन्ह (?) के स्थान पर आएगी?
7, 14, 21, 28, 35, 42, 49, ?

- Ans
- ✗ 1. 63
 - ✓ 2. 56
 - ✗ 3. 68
 - ✗ 4. 82

Question Type : MCQ
Question ID : 264330133378
Option 1 ID : 264330522545
Option 2 ID : 264330522544
Option 3 ID : 264330522546
Option 4 ID : 264330522543
Status : Answered
Chosen Option : 2

Q.5 दी गई श्रृंखला में निम्नलिखित में से कौन-सी संख्या प्रश्न चिन्ह (?) के स्थान पर आएगी?
7, 7, 5, 15, 11, 55, 49, 343, ?

- Ans
- ✗ 1. 395
 - ✓ 2. 335
 - ✗ 3. 194
 - ✗ 4. 293

Question Type : MCQ
Question ID : 264330135033
Option 1 ID : 264330529067
Option 2 ID : 264330529069
Option 3 ID : 264330529070
Option 4 ID : 264330529068
Status : Answered
Chosen Option : 2

Q.6 किसी एक खास कूट भाषा में, '231' का अर्थ 'Pant is Brown' है, '307' का अर्थ 'His Brown Shirt' है, और '781' का अर्थ 'Shirt and Pant' है। 'is' के लिए क्या कोड होगा?

- Ans
- 1. 8
 - 2. 0
 - 3. 1
 - 4. 2

Question Type : MCQ
Question ID : 264330133471
Option 1 ID : 264330522918
Option 2 ID : 264330522916
Option 3 ID : 264330522917
Option 4 ID : 264330522915
Status : Answered
Chosen Option : 4

Q.7 दिए गए पैटर्न का ध्यानपूर्वक अध्ययन कीजिए और उस संख्या को चुनिए जो इसमें प्रश्न चिन्ह (?) के स्थान पर आ सकती है।
प्रथम पंक्ति- 14, 42, 84
द्वितीय पंक्ति- 28, 84, 168
तृतीय पंक्ति- 19, 57, ?

- Ans
- 1. 114
 - 2. 126
 - 3. 112
 - 4. 129

Question Type : MCQ
Question ID : 264330133380
Option 1 ID : 264330522554
Option 2 ID : 264330522552
Option 3 ID : 264330522553
Option 4 ID : 264330522551
Status : Answered
Chosen Option : 1

Q.8 उस विकल्प को चुनिए जो तीसरी संख्या से ठीक उसी प्रकार संबंधित है जिस प्रकार दूसरी संख्या पहली संख्या से संबंधित है।
9 : 28 :: 13 : ?

- Ans
- 1. 28
 - 2. 39
 - 3. 40
 - 4. 54

Question Type : MCQ
Question ID : 264330135035
Option 1 ID : 264330529078
Option 2 ID : 264330529075
Option 3 ID : 264330529076
Option 4 ID : 264330529077
Status : Answered
Chosen Option : 3

Q.9 दिए गए समीकरण को सही करने के लिए किन दो संख्याओं को आपस में बदला जाना चाहिए?
 $13 + 4 \div 16 \times 5 - 22 = 11$

- Ans
- 1. 13 और 16
 - 2. 13 और 22
 - 3. 16 और 22
 - 4. 4 और 16

Question Type : MCQ
Question ID : 264330133381
Option 1 ID : 264330522555
Option 2 ID : 264330522558
Option 3 ID : 264330522557
Option 4 ID : 264330522556
Status : Answered
Chosen Option : 4

Q.10 निम्नलिखित में से कौन-सा अक्षर-समूह दी गई श्रृंखला में रिक्त स्थानों को पूरा करेगा ?
ca_pcaa_caa_caap_aap

- Ans
- 1. appc
 - 2. appp
 - 3. aapp
 - 4. aacp

Question Type : MCQ
Question ID : 264330133366
Option 1 ID : 264330522498
Option 2 ID : 264330522495
Option 3 ID : 264330522496
Option 4 ID : 264330522497
Status : Answered
Chosen Option : 1

Q.11 यदि A का अर्थ 'जोड़ना', B का अर्थ 'गुणा करना', C का अर्थ 'घटाना' और D का अर्थ 'भाग' है, तो निम्नलिखित समीकरण का मान क्या होगा?
 $14 C (18 D 3) A 5 = ?$

- Ans
- 1. 17
 - 2. 20
 - 3. 31
 - 4. 13

Question Type : MCQ
Question ID : 264330135038
Option 1 ID : 264330529090
Option 2 ID : 264330529087
Option 3 ID : 264330529089
Option 4 ID : 264330529088
Status : Answered
Chosen Option : 4

Q.12 एक कोचिंग सेंटर के सात छात्रों, परम, काज़ी, रवि, सुरेश, तनवीर, उदय और वर्षा ने अलग-अलग प्रतिशत प्राप्त किए। कोचिंग सेंटर में दूसरे स्थान पर परम ने सबसे अधिक प्रतिशत प्राप्त किया। वर्षा द्वारा प्राप्त किया गया प्रतिशत केवल एक छात्र से अधिक था। सुरेश का प्रतिशत तनवीर से अधिक लेकिन परम से कम था। तीन छात्रों को तनवीर से अधिक प्रतिशत और तीन को तनवीर से कम प्रतिशत प्राप्त हुए। रवि और काज़ी दोनों में से किसी को भी सबसे कम प्रतिशत नहीं मिले। किसका प्रतिशत सबसे कम था?

- Ans
- 1. परम
 - 2. काज़ी
 - 3. उदय
 - 4. तनवीर

Question Type : **MCQ**
Question ID : **264330133374**
Option 1 ID : **264330522529**
Option 2 ID : **264330522530**
Option 3 ID : **264330522528**
Option 4 ID : **264330522527**
Status : **Answered**
Chosen Option : **2**

Q.13 उस विकल्प को चुनिए जो तीसरे शब्द से ठीक उसी तरह संबंधित है जिस तरह दूसरा शब्द पहले शब्द से संबंधित है।
रवींद्रनाथ टैगोर : साहित्य :: मदर टेरेसा :

- Ans
- 1. गणित
 - 2. शांति
 - 3. रसायन विज्ञान
 - 4. भौतिकी

Question Type : **MCQ**
Question ID : **264330133367**
Option 1 ID : **264330522500**
Option 2 ID : **264330522502**
Option 3 ID : **264330522501**
Option 4 ID : **264330522499**
Status : **Answered**
Chosen Option : **2**

Q.14 उस विकल्प को चुनिए जो पाँचवें पद से ठीक उसी प्रकार संबंधित है जिस प्रकार दूसरा पद पहले पद से संबंधित है और चौथा पद तीसरे पद से संबंधित है।

KP2 : PK16 :: AG3 : FB81 :: TR5 : ?

- Ans
- 1. YM625
 - 2. MY125
 - 3. MY625
 - 4. YM125

Question Type : **MCQ**
Question ID : **264330138520**
Option 1 ID : **264330542688**
Option 2 ID : **264330542690**
Option 3 ID : **264330542687**
Option 4 ID : **264330542689**
Status : **Answered**
Chosen Option : **2**

Q.15 दो कथन दिए गए हैं और उनके बाद दो निष्कर्ष I और II दिए गए हैं। कथनों को सत्य मानते हुए, चाहे वे सामान्यतः जात तथ्यों से अलग प्रतीत होते हों, निश्चय कीजिए कि कौन-सा निष्कर्ष तार्किक रूप से कथनों के अनुसार है।
कथन:
सभी पेन, कार हैं।
कुछ कार, बल्ब हैं।
निष्कर्ष:
I. कुछ कारें, बल्ब नहीं हैं।
II. कुछ पेन का बल्ब होना एक संभावना है।

Ans

- 1. सिर्फ निष्कर्ष I कथनों के अनुसार है
- 2. निष्कर्ष I और II में से कोई भी कथनों के अनुसार नहीं है
- 3. निष्कर्ष I और II दोनों कथनों के अनुसार हैं
- 4. सिर्फ निष्कर्ष II कथनों के अनुसार है

Question Type : **MCQ**

Question ID : **264330133376**

Option 1 ID : **264330522535**

Option 2 ID : **264330522538**

Option 3 ID : **264330522537**

Option 4 ID : **264330522536**

Status : **Answered**

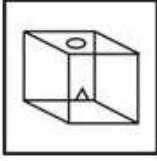
Chosen Option : **4**

Q.16 उस विकल्प आकृति को चुनिए जिसमें नीचे दी गई आकृति उसके भाग के रूप में निहित है (घूर्णन की अनुमति नहीं है)।

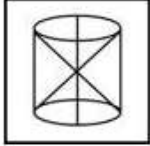


Ans

✗ 1.



✓ 2.



✗ 3.



✗ 4.



Question Type : **MCQ**

Question ID : **264330137849**

Option 1 ID : **264330540006**

Option 2 ID : **264330540004**

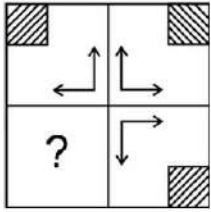
Option 3 ID : **264330540003**

Option 4 ID : **264330540005**

Status : **Answered**

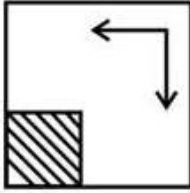
Chosen Option : **2**

Q.17 उस विकल्प आकृति को चुनिए जो नीचे दी गई आकृति में पैटर्न को पूरा करने के लिए प्रश्न चिन्ह (?) के स्थान पर आएगी। (घूर्णन की अनुमति नहीं है)।

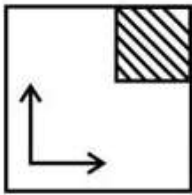


Ans

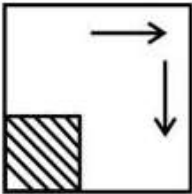
✓ 1.



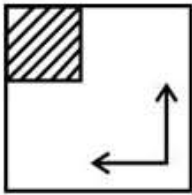
✗ 2.



✗ 3.



✗ 4.



Question Type : **MCQ**

Question ID : **264330133385**

Option 1 ID : **264330522573**

Option 2 ID : **264330522572**

Option 3 ID : **264330522574**

Option 4 ID : **264330522571**

Status : **Answered**

Chosen Option : **1**

Q.18 दो कथन दिए गए हैं और उनके बाद दो निष्कर्ष I और II दिए गए हैं। कथनों को सत्य मानते हुए, चाहे वे सामान्यतः जात तथ्यों से अलग प्रतीत होते हों, निश्चय कीजिए कि कौन-सा निष्कर्ष तार्किक रूप से कथनों के अनुसार है।
कथन:
सभी लड़कियाँ, होशियार हैं।
सभी होशियार, बुद्धिमान हैं।
निष्कर्ष:
I. सभी लड़कियाँ, बुद्धिमान हैं।
II. कुछ लड़कियाँ, बुद्धिमान नहीं हैं।

- Ans**
- 1. निष्कर्ष I और II दोनों कथनों के अनुसार हैं
 - 2. सिर्फ निष्कर्ष I कथनों के अनुसार है
 - 3. सिर्फ निष्कर्ष II कथनों के अनुसार है
 - 4. निष्कर्ष I और II में से कोई भी कथनों के अनुसार नहीं है

Question Type : **MCQ**

Question ID : **264330133375**

Option 1 ID : **264330522533**

Option 2 ID : **264330522531**

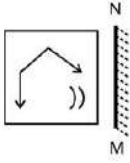
Option 3 ID : **264330522532**

Option 4 ID : **264330522534**

Status : **Answered**


Chosen Option : **4**

Q.19 दी गई आकृति के उस सही दर्पण प्रतिबिंब को चुनिए जो दर्पण MN को आकृति के दाईं ओर रखने पर बनेगा।



Ans

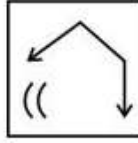
✗ 1.



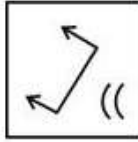
✗ 2.



✓ 3.



✗ 4.



Question Type : MCQ

Question ID : 264330137850

Option 1 ID : 264330540008

Option 2 ID : 264330540007

Option 3 ID : 264330540009

Option 4 ID : 264330540010

Status : Answered

Chosen Option : 3

Q.20 उस विकल्प को चुनिए जो तीसरे शब्द से ठीक उसी तरह संबंधित है जिस तरह दूसरा शब्द पहले शब्द से संबंधित है।
त्याग देना : छोड़ना :: विचारमग्न (Pensive) : ?

Ans

✓ 1. विचारशील

✗ 2. खुश

✗ 3. नाचना

✗ 4. अवसाद-ग्रस्त

Question Type : MCQ

Question ID : 264330133368

Option 1 ID : 264330522503

Option 2 ID : 264330522505

Option 3 ID : 264330522506

Option 4 ID : 264330522504

Status : Answered

Chosen Option : 4

Q.1 भारतीय संविधान का अनुच्छेद 17 _____ से संबंधित है।

- Ans
- 1. शिक्षा के अधिकार
 - 2. अस्पृश्यता के उन्मूलन
 - 3. कानून के समक्ष समानता
 - 4. उपाधियों के उन्मूलन

Question Type : MCQ
Question ID : 264330133868
Option 1 ID : 264330524497
Option 2 ID : 264330524495
Option 3 ID : 264330524498
Option 4 ID : 264330524496
Status : Answered
Chosen Option : 2

Q.2 2011 की जनगणना के अनुसार, भारत में निम्न में से किस राज्य का लिंगानुपात सबसे अधिक है?

- Ans
- 1. महाराष्ट्र
 - 2. आंध्रप्रदेश
 - 3. केरल
 - 4. तमिलनाडु

Question Type : MCQ
Question ID : 264330134705
Option 1 ID : 264330527776
Option 2 ID : 264330527775
Option 3 ID : 264330527777
Option 4 ID : 264330527778
Status : Answered
Chosen Option : 3

Q.3 भारतीय अर्थव्यवस्था के FRBM अधिनियम, 2003 में 'F' का क्या अर्थ है?

- Ans
- 1. फाइनेंशियल (Financial)
 - 2. फंक्शनल (Functional)
 - 3. फिस्कल (Fiscal)
 - 4. फ्रीडम (Freedom)

Question Type : MCQ
Question ID : 264330133955
Option 1 ID : 264330524843
Option 2 ID : 264330524846
Option 3 ID : 264330524844
Option 4 ID : 264330524845
Status : Answered
Chosen Option : 1

Q.4 गैल्वनीकरण(यशदलेपन)वह प्रक्रिया है जिसमें लोहे को जंग लगने से बचाने के लिए इस पर _____ की एक पतली परत चढ़ाई जाती है।

- Ans
- ✓ 1. जस्ते
 - ✗ 2. ताँबे
 - ✗ 3. चाँदी
 - ✗ 4. निकल

Question Type : MCQ
Question ID : 264330134699
Option 1 ID : 264330527754
Option 2 ID : 264330527752
Option 3 ID : 264330527753
Option 4 ID : 264330527751
Status : Answered
Chosen Option : 2

Q.5 निम्नलिखित में से किसने सल्तनत काल के दो मूल सिक्के - 'चाँदी का टंका (silver tanka)' और 'ताँबे का जीतल (copper jital)' चलवाया था?

- Ans
- ✗ 1. अलाउद्दीन खिलजी
 - ✗ 2. इब्राहिम लोदी
 - ✓ 3. इल्तुतमिश
 - ✗ 4. कुतुबुद्दीन ऐबक

Question Type : MCQ
Question ID : 264330134708
Option 1 ID : 264330527789
Option 2 ID : 264330527790
Option 3 ID : 264330527787
Option 4 ID : 264330527788
Status : Answered
Chosen Option : 3

Q.6 वॉकर (Walker) कप निम्नलिखित में से किस खेल से संबंधित है?

- Ans
- ✓ 1. गॉल्फ़
 - ✗ 2. शतरंज
 - ✗ 3. हॉकी
 - ✗ 4. फुटबॉल

Question Type : MCQ
Question ID : 264330134717
Option 1 ID : 264330527824
Option 2 ID : 264330527826
Option 3 ID : 264330527825
Option 4 ID : 264330527823
Status : Answered
Chosen Option : 3

Q.7 निम्नलिखित में से कौन-सा विटामिन हमारी त्वचा और आँखों को स्वस्थ रखने में सहायता करता है?

- Ans
- 1. विटामिन C
 - 2. विटामिन B
 - 3. विटामिन A
 - 4. विटामिन D

Question Type : MCQ

Question ID : 264330133869

Option 1 ID : 264330524501

Option 2 ID : 264330524500

Option 3 ID : 264330524499

Option 4 ID : 264330524502

Status : Answered

Chosen Option : 3

Q.8 निम्नलिखित में से कौन-सा एक जोवियन (Jovian) ग्रह नहीं है?

- Ans
- 1. बृहस्पति
 - 2. बुध
 - 3. नेपच्यून
 - 4. शनि

Question Type : MCQ

Question ID : 264330134702

Option 1 ID : 264330527763

Option 2 ID : 264330527766

Option 3 ID : 264330527764

Option 4 ID : 264330527765

Status : Answered

Chosen Option : 3

Q.9 नवंबर 2022 तक, निम्नलिखित में से कौन-सा राज्य भारत में कपास का अग्रणी उत्पादक है?

- Ans
- 1. मध्यप्रदेश
 - 2. कर्नाटक
 - 3. गुजरात
 - 4. तेलंगाना

Question Type : MCQ

Question ID : 264330133940

Option 1 ID : 264330524783

Option 2 ID : 264330524784

Option 3 ID : 264330524786

Option 4 ID : 264330524785

Status : Answered

Chosen Option : 3

Q.10 भारतीय रेलवे की वर्ष _____ तक शुद्ध-शून्य कार्बन उत्सर्जक (Net Zero Carbon Emitter) बनने की योजना है।

- Ans
- 1. 2025
 - 2. 2027
 - 3. 2030
 - 4. 2032

Question Type : MCQ

Question ID : 264330133865

Option 1 ID : 264330524483

Option 2 ID : 264330524484

Option 3 ID : 264330524485

Option 4 ID : 264330524486

Status : Answered

Chosen Option : 3

Q.11 ब्रिटेन के किस प्रधानमंत्री ने 44 दिनों तक कार्यभार संभालने के बाद 20 अक्टूबर, 2022 को इस्तीफा दे दिया था?

- Ans
- 1. थेरेसा मे (Theresa May)
 - 2. लिज़ ट्रस (Liz Truss)
 - 3. बोरिस जॉनसन (Boris Johnson)
 - 4. ऋषि सुनक (Rishi Sunak)

Question Type : MCQ

Question ID : 264330133864

Option 1 ID : 264330524481

Option 2 ID : 264330524480

Option 3 ID : 264330524479

Option 4 ID : 264330524482

Status : Answered

Chosen Option : 2

Q.12 दिल्ली नगर निगम (संशोधन) विधेयक, 2022 का उद्देश्य दिल्ली के _____ नगर निगमों को एक इकाई में एकीकृत करना है जिससे तालमेल और रणनीतिक योजना और संसाधनों के इष्टतम उपयोग के लिए एक मजबूत व्यवस्था सुनिश्चित की जा सकेगी।

- Ans
- 1. तीन
 - 2. पाँच
 - 3. दो
 - 4. चार

Question Type : MCQ

Question ID : 264330134695

Option 1 ID : 264330527736

Option 2 ID : 264330527738

Option 3 ID : 264330527735

Option 4 ID : 264330527737

Status : Not Answered

Chosen Option : --

Q.13 वर्ष 2011 की जनगणना के अनुसार नई दिल्ली जिले की साक्षरता दर कितनी है?

- Ans 1. 88.01 प्रतिशत
 2. 54.12 प्रतिशत
 3. 64.09 प्रतिशत
 4. 98.42 प्रतिशत

Question Type : MCQ
Question ID : 264330137406
Option 1 ID : 264330538251
Option 2 ID : 264330538254
Option 3 ID : 264330538252
Option 4 ID : 264330538253
Status : Answered
Chosen Option : 1

Q.14 भारतीय राष्ट्रीय कांग्रेस के निम्नलिखित अधिवेशनों में से किस अधिवेशन की अध्यक्षता पहली बार एक महिला ने की थी?

- Ans 1. कलकत्ता - 1917
 2. सूरत - 1907
 3. कानपुर - 1925
 4. लाहौर - 1929

Question Type : MCQ
Question ID : 264330134709
Option 1 ID : 264330527792
Option 2 ID : 264330527794
Option 3 ID : 264330527791
Option 4 ID : 264330527793
Status : Answered
Chosen Option : 1

Q.15 भरतनाट्यम नृत्य किस राज्य से संबंधित है?

- Ans 1. महाराष्ट्र
 2. मध्यप्रदेश
 3. केरल
 4. तमिलनाडु

Question Type : MCQ
Question ID : 264330133856
Option 1 ID : 264330524447
Option 2 ID : 264330524449
Option 3 ID : 264330524450
Option 4 ID : 264330524448
Status : Answered
Chosen Option : 4

Q.16 निम्नलिखित में से किसे "पैरा शूटिंग (Para Shooting)" के लिए मेजर ध्यानचंद खेल रत्न पुरस्कार 2021 से सम्मानित किया गया है?

- Ans
- 1. प्रमोद भगत
 - 2. कृष्णा नागर
 - 3. सुमित अंतिल
 - 4. अवनी लेखरा

Question Type : MCQ
Question ID : 264330133859
Option 1 ID : 264330524461
Option 2 ID : 264330524462
Option 3 ID : 264330524460
Option 4 ID : 264330524459
Status : Not Answered
Chosen Option : --

Q.17 निम्नलिखित में से किस तत्व का उपयोग इसके आर्द्रताग्राही गुणों (hygroscopic properties) के कारण मॉइस्चराइजिंग क्रीम और साबुन में किया जाता है?

- Ans
- 1. ग्लिसरॉल (Glycerol)
 - 2. फ़ेयॉन (Galena)
 - 3. एथेनॉल (Ethanol)
 - 4. गैलेना (Galena)

Question Type : MCQ
Question ID : 264330134701
Option 1 ID : 264330527760
Option 2 ID : 264330527762
Option 3 ID : 264330527759
Option 4 ID : 264330527761
Status : Answered
Chosen Option : 1

Q.18 प्रसिद्ध भारतीय वैज्ञानिक, डॉ. एपीजे अब्दुल कलाम की आत्मकथा को _____ के नाम से जाना जाता है।

- Ans
- 1. वेटिंग फॉर ए वीसा (Waiting for a Visa)
 - 2. द रेस ऑफ माई लाइफ (The Race of My Life)
 - 3. वन लाइफ इस नॉट इनफ़ (One Life is Not Enough)
 - 4. विंग्स ऑफ फायर (Wings of Fire)

Question Type : MCQ
Question ID : 264330133948
Option 1 ID : 264330524818
Option 2 ID : 264330524816
Option 3 ID : 264330524815
Option 4 ID : 264330524817
Status : Answered
Chosen Option : 4

Q.19 निम्नलिखित में से कौन-सा भारत के मेघालय का एक प्रसिद्ध फसल कटाई उत्सव है?

- Ans
- 1. हॉर्नबिल उत्सव (Hornbill festival)
 - 2. चपचार कुट उत्सव (Chapcharkut festival)
 - 3. नोंगक्रम उत्सव (Nongkrem festival)
 - 4. सनबर्न उत्सव (Sunburn festival)

Question Type : MCQ

Question ID : 264330137947

Option 1 ID : 264330540397

Option 2 ID : 264330540395

Option 3 ID : 264330540396

Option 4 ID : 264330540398

Status : Not Answered

Chosen Option : --

Q.20 कुचिपुड़ी नृत्य शैली के किस गुरु को वर्ष 1998 में पद्म भूषण मिला था?

- Ans
- 1. उदय शंकर
 - 2. गुरु वेम्पति चिन्ना सत्यम
 - 3. गुरु बिपिन सिंह
 - 4. केलुचरण महापात्र

Question Type : MCQ

Question ID : 264330133950

Option 1 ID : 264330524823

Option 2 ID : 264330524826

Option 3 ID : 264330524825

Option 4 ID : 264330524824

Status : Not Answered

Chosen Option : --

Q.21 भारत का क्षेत्रफल विश्व के कुल भौगोलिक क्षेत्रफल का कितना प्रतिशत है?

- Ans
- 1. 5.2 प्रतिशत
 - 2. 4.8 प्रतिशत
 - 3. 2.4 प्रतिशत
 - 4. 3.2 प्रतिशत

Question Type : MCQ

Question ID : 264330133874

Option 1 ID : 264330524522

Option 2 ID : 264330524521

Option 3 ID : 264330524519

Option 4 ID : 264330524520

Status : Answered

Chosen Option : 3

Q.22 मनुष्य के आरंभिक विकास के प्रागैतिहासिक काल को समान्यतः _____ के नाम से जाना जाता है।

- Ans
- 1. लौह युग (Iron age)
 - 2. मध्यपाषाण युग (Mesolithic age)
 - 3. नवपाषाण युग (New stone age)
 - 4. पुरापाषाण युग (Old stone age)

Question Type : MCQ
Question ID : 264330137957
Option 1 ID : 264330540437
Option 2 ID : 264330540435
Option 3 ID : 264330540436
Option 4 ID : 264330540438
Status : Answered
Chosen Option : 4

Q.23 भारतीय संगीतकार और कंपोजर पंडित शिव कुमार शर्मा _____ के एक सर्वश्रेष्ठ प्रतिपादक थे।

- Ans
- 1. संतूर
 - 2. गिटार
 - 3. हारमोनियम
 - 4. वायलिन

Question Type : MCQ
Question ID : 264330133862
Option 1 ID : 264330524471
Option 2 ID : 264330524473
Option 3 ID : 264330524474
Option 4 ID : 264330524472
Status : Answered
Chosen Option : 1

Q.24 वर्ष 1922 में गठित स्वराज पार्टी के अध्यक्ष कौन थे?

- Ans
- 1. चितरंजन दास
 - 2. सी. राजगोपालाचारी
 - 3. मोतीलाल नेहरू
 - 4. महात्मा गांधी

Question Type : MCQ
Question ID : 264330137960
Option 1 ID : 264330540450
Option 2 ID : 264330540447
Option 3 ID : 264330540449
Option 4 ID : 264330540448
Status : Answered
Chosen Option : 3

Q.25 पट्टदकल (Pattadakal) में जैन मंदिर का निर्माण _____ वंश द्वारा करवाया गया था।

- Ans
- 1. चोल
 - 2. होयसल (Hoyasalas)
 - 3. चालुक्य
 - 4. राष्ट्रकूट (Rashtrakutas)

Question Type : MCQ
Question ID : 264330134698
Option 1 ID : 264330527747
Option 2 ID : 264330527748
Option 3 ID : 264330527750
Option 4 ID : 264330527749
Status : Answered
Chosen Option : 3

Section : English Language and Comprehension

Q.1 Select the most appropriate synonym to substitute the bracketed word in the given sentence.

They wanted me to (expound) on this topic because I had some decent ideas on the subject.

- Ans
- 1. notoriety
 - 2. partisan
 - 3. paucity
 - 4. expatiate

Question Type : MCQ
Question ID : 264330136526
Option 1 ID : 264330534846
Option 2 ID : 264330534843
Option 3 ID : 264330534844
Option 4 ID : 264330534845
Status : Answered
Chosen Option : 4

Q.2 Select the appropriate antonym for the underlined word.

There can't be anything positive about plastics with pathogens floating around.

- Ans
- 1. fundamental
 - 2. approving
 - 3. depreciative
 - 4. flattering

Question Type : MCQ
Question ID : 264330134339
Option 1 ID : 264330526345
Option 2 ID : 264330526343
Option 3 ID : 264330526344
Option 4 ID : 264330526346
Status : Answered
Chosen Option : 3

Q.3 Identify the segment that contains a grammatical error. If there is no error, select 'No error'.
The front part is used for carving / the lines and the back end / for scratching of whole areas.

- Ans**
- 1. the lines and the back end
 - 2. for scratching of whole areas.
 - 3. No Error
 - 4. The front part is used for carving

Question Type : **MCQ**
Question ID : **264330135793**
Option 1 ID : **264330532048**
Option 2 ID : **264330532049**
Option 3 ID : **264330532050**
Option 4 ID : **264330532047**
Status : **Answered**
Chosen Option : **4**

Q.4 Choose the word that is opposite in meaning to the given word.

Curtailed

- Ans**
- 1. Pruned
 - 2. Slashed
 - 3. Lengthened
 - 4. Trimmed

Question Type : **MCQ**
Question ID : **264330134841**
Option 1 ID : **264330528302**
Option 2 ID : **264330528300**
Option 3 ID : **264330528301**
Option 4 ID : **264330528299**
Status : **Answered**
Chosen Option : **3**

Q.5 Choose the word that can substitute the given group of words.
A group of people who have no permanent abode but wander from place to place

- Ans**
- 1. Nomad
 - 2. Truant
 - 3. Usurer
 - 4. Ponderer

Question Type : **MCQ**
Question ID : **264330134335**
Option 1 ID : **264330526328**
Option 2 ID : **264330526329**
Option 3 ID : **264330526327**
Option 4 ID : **264330526330**
Status : **Answered**
Chosen Option : **1**

Q.6 In the following question, out of the given four alternatives, select the alternative which best expresses the meaning of the Idiom/Phrase.
Break sweat

- Ans
- 1. To lie
 - 2. To make a futile attempt
 - 3. To be caught stealing
 - 4. To use a lot of energy or effort

Question Type : **MCQ**
Question ID : **264330134341**
Option 1 ID : **264330526351**
Option 2 ID : **264330526354**
Option 3 ID : **264330526353**
Option 4 ID : **264330526352**
Status : **Answered**
Chosen Option : **1**

Q.7 Improve the underlined part of the sentence. Choose 'No improvement' as an answer if the sentence is grammatically correct.
He started a newly jobs on Tuesday.

- Ans
- 1. No improvement
 - 2. a new job
 - 3. a new jobs
 - 4. an new job

Question Type : **MCQ**
Question ID : **264330134298**
Option 1 ID : **264330526190**
Option 2 ID : **264330526188**
Option 3 ID : **264330526187**
Option 4 ID : **264330526189**
Status : **Answered**
Chosen Option : **2**

Q.8 In the following question, out of the given four alternatives, select the alternative which best expresses the meaning of the Idiom/Phrase.

To poke one's nose into

- Ans
- 1. To give permission
 - 2. To interfere
 - 3. To bring no sense
 - 4. To show disrespect

Question Type : **MCQ**
Question ID : **264330134843**
Option 1 ID : **264330528307**
Option 2 ID : **264330528308**
Option 3 ID : **264330528310**
Option 4 ID : **264330528309**
Status : **Answered**
Chosen Option : **2**

Q.9 Find the part of the given sentence that has an error in it. If there is no error, choose 'No error'.

This is most unique thing I have ever seen in my life.

- Ans
- 1. seen in my life.
 - 2. thing I have ever
 - 3. This is most unique
 - 4. No error

Question Type : **MCQ**

Question ID : **264330134322**

Option 1 ID : **264330526281**

Option 2 ID : **264330526280**

Option 3 ID : **264330526279**

Option 4 ID : **264330526282**

Status : **Answered**

Chosen Option : **3**

Q.10 Fill in the blank with the most appropriate option.

Rohan was now standing on tiptoe to _____ over at the inhabitants of the two beds.

- Ans
- 1. view
 - 2. stare
 - 3. peep
 - 4. look

Question Type : **MCQ**

Question ID : **264330136408**

Option 1 ID : **264330534398**

Option 2 ID : **264330534397**

Option 3 ID : **264330534396**

Option 4 ID : **264330534395**

Status : **Answered**

Chosen Option : **4**

Q.11 Select the most appropriate option to fill in the blank.

Plastic inhabits the oceans, _____ up in the guts of seagulls and great white sharks.

- Ans
- 1. provoking
 - 2. sailing
 - 3. building
 - 4. burning

Question Type : **MCQ**

Question ID : **264330134345**

Option 1 ID : **264330526370**

Option 2 ID : **264330526368**

Option 3 ID : **264330526367**

Option 4 ID : **264330526369**

Status : **Answered**

Chosen Option : **3**

Q.12 Fill in the blank with the most appropriate option.

“May I _____ your coats, Mr. and Mrs. Mason?”

- Ans
- 1. trek
 - 2. taste
 - 3. track
 - 4. take

Question Type : MCQ
Question ID : 264330136594
Option 1 ID : 264330535110
Option 2 ID : 264330535108
Option 3 ID : 264330535107
Option 4 ID : 264330535109
Status : Answered
Chosen Option : 4

Q.13 Select the appropriate synonym for the underlined word.
It is not that you seem heartless.

- Ans
- 1. mild
 - 2. cruel
 - 3. robust
 - 4. warm

Question Type : MCQ
Question ID : 264330134336
Option 1 ID : 264330526331
Option 2 ID : 264330526332
Option 3 ID : 264330526334
Option 4 ID : 264330526333
Status : Answered
Chosen Option : 2

Q.14 Find the part of the given sentence that has an error in it. If there is no error, choose
'No error'.
Make sure you known how to swim.

- Ans
- 1. Make sure
 - 2. No error
 - 3. you known
 - 4. how to swim.

Question Type : MCQ
Question ID : 264330134476
Option 1 ID : 264330526871
Option 2 ID : 264330526874
Option 3 ID : 264330526872
Option 4 ID : 264330526873
Status : Answered
Chosen Option : 3

Q.15 Choose the incorrectly spelt word.

- Ans
- 1. Robber
 - 2. Banker
 - 3. Artiset
 - 4. Teacher

Question Type : **MCQ**
Question ID : **264330134342**
Option 1 ID : **264330526356**
Option 2 ID : **264330526355**
Option 3 ID : **264330526358**
Option 4 ID : **264330526357**
Status : **Answered**
Chosen Option : **3**

Q.16 Four sentences are given, out of which three have spelling errors. Choose the sentence with all correctly spelt words.

- Ans
- 1. The paralel lives of two contemporaries.
 - 2. She took a pair of sissors and cut his hair.
 - 3. He made the most delicious pumkin pie.
 - 4. I need a strong adhesive.

Question Type : **MCQ**
Question ID : **264330136407**
Option 1 ID : **264330534391**
Option 2 ID : **264330534393**
Option 3 ID : **264330534394**
Option 4 ID : **264330534392**
Status : **Answered**
Chosen Option : **3**

Q.17 Select the most appropriate option to substitute the bracketed segment in the given sentence. If there is no need to substitute it, select 'no substitution required'.

No, they are normal people, (although they perceive the world different).

- Ans
- 1. No substitution required
 - 2. but they perceive the world differently
 - 3. from they perceive the world differently
 - 4. while they perceive the world different

Question Type : **MCQ**
Question ID : **264330135796**
Option 1 ID : **264330532062**
Option 2 ID : **264330532059**
Option 3 ID : **264330532061**
Option 4 ID : **264330532060**
Status : **Answered**
Chosen Option : **2**

Q.18 Improve the underlined part of the sentence. Choose 'No improvement' as an answer if the sentence is grammatically correct.

We went to the mall; however, us only gone window-shopping.

- Ans
- 1. we only gone
 - 2. we only went
 - 3. they only going
 - 4. No improvement

Question Type : MCQ
Question ID : 264330134325
Option 1 ID : 264330526293
Option 2 ID : 264330526292
Option 3 ID : 264330526291
Option 4 ID : 264330526294
Status : Answered
Chosen Option : 2

Q.19 Choose the word that can substitute the given group of words.

That can be carried or moved easily

- Ans
- 1. Handful
 - 2. Potable
 - 3. Portable
 - 4. Illegible

Question Type : MCQ
Question ID : 264330134837
Option 1 ID : 264330528285
Option 2 ID : 264330528283
Option 3 ID : 264330528284
Option 4 ID : 264330528286
Status : Answered
Chosen Option : 2

Q.20 A sentence has been given with a blank to be filled with an appropriate option. Choose the correct alternative.

I strained _____ to catch his options.

- Ans
- 1. hardest
 - 2. hardness
 - 3. hardly
 - 4. hard

Question Type : MCQ
Question ID : 264330134326
Option 1 ID : 264330526296
Option 2 ID : 264330526295
Option 3 ID : 264330526298
Option 4 ID : 264330526297
Status : Answered
Chosen Option : 4

Comprehension:

In the following passage some of the words have been deleted. Read the passage carefully and select the correct answer for the given blank out of the four alternatives.

A young man walks toward me with a stick slung across his back and a (1) _____ of sheep at his feet, which carry him down the path (2) _____ a crowd of rowdy children. An older man follows, weatherworn but still (3) _____, a rifle over his left shoulder. He clicks his tongue to (4) _____ the flock. Behind him are two women on horses; I guess (5) _____ are his wife and daughter.

SubQuestion No : 21

Q.21 Select the most appropriate option to fill in blank number 1.

- Ans**
- 1. shoal
 - 2. flock
 - 3. horde
 - 4. army

Question Type : **MCQ**

Question ID : **264330134832**

Option 1 ID : **264330528265**

Option 2 ID : **264330528263**

Option 3 ID : **264330528264**

Option 4 ID : **264330528266**

Status : **Answered**

Chosen Option : **2**

Comprehension:

In the following passage some of the words have been deleted. Read the passage carefully and select the correct answer for the given blank out of the four alternatives.

A young man walks toward me with a stick slung across his back and a (1) _____ of sheep at his feet, which carry him down the path (2) _____ a crowd of rowdy children. An older man follows, weatherworn but still (3) _____, a rifle over his left shoulder. He clicks his tongue to (4) _____ the flock. Behind him are two women on horses; I guess (5) _____ are his wife and daughter.

SubQuestion No : 22

Q.22 Select the most appropriate option to fill in blank number 2.

- Ans**
- 1. like
 - 2. liking
 - 3. likeness
 - 4. likely

Question Type : **MCQ**

Question ID : **264330134833**

Option 1 ID : **264330528268**

Option 2 ID : **264330528267**

Option 3 ID : **264330528270**

Option 4 ID : **264330528269**

Status : **Answered**

Chosen Option : **1**

Comprehension:

In the following passage some of the words have been deleted. Read the passage carefully and select the correct answer for the given blank out of the four alternatives.

A young man walks toward me with a stick slung across his back and a (1) _____ of sheep at his feet, which carry him down the path (2) _____ a crowd of rowdy children. An older man follows, weatherworn but still (3) _____, a rifle over his left shoulder. He clicks his tongue to (4) _____ the flock. Behind him are two women on horses; I guess (5) _____ are his wife and daughter.

SubQuestion No : 23

Q.23 Select the most appropriate option to fill in blank number 3.

- Ans**
- 1. strong
 - 2. slow
 - 3. sick
 - 4. thin

Question Type : **MCQ**

Question ID : **264330134834**

Option 1 ID : **264330528272**

Option 2 ID : **264330528271**

Option 3 ID : **264330528273**

Option 4 ID : **264330528274**

Status : **Answered**

Chosen Option : **1**

Comprehension:

In the following passage some of the words have been deleted. Read the passage carefully and select the correct answer for the given blank out of the four alternatives.

A young man walks toward me with a stick slung across his back and a (1) _____ of sheep at his feet, which carry him down the path (2) _____ a crowd of rowdy children. An older man follows, weatherworn but still (3) _____, a rifle over his left shoulder. He clicks his tongue to (4) _____ the flock. Behind him are two women on horses; I guess (5) _____ are his wife and daughter.

SubQuestion No : 24

Q.24 Select the most appropriate option to fill in blank number 4.

- Ans**
- 1. dress
 - 2. claim
 - 3. encourage
 - 4. punish

Question Type : **MCQ**

Question ID : **264330134835**

Option 1 ID : **264330528278**

Option 2 ID : **264330528275**

Option 3 ID : **264330528277**

Option 4 ID : **264330528276**

Status : **Answered**

Chosen Option : **3**

Comprehension:

In the following passage some of the words have been deleted. Read the passage carefully and select the correct answer for the given blank out of the four alternatives.

A young man walks toward me with a stick slung across his back and a (1) _____ of sheep at his feet, which carry him down the path (2) _____ a crowd of rowdy children. An older man follows, weatherworn but still (3) _____, a rifle over his left shoulder. He clicks his tongue to (4) _____ the flock. Behind him are two women on horses; I guess (5) _____ are his wife and daughter.

SubQuestion No : 25

Q.25 Select the most appropriate option to fill in blank number 5.

- Ans**
- 1. this
 - 2. they
 - 3. them
 - 4. these

Question Type : **MCQ**

Question ID : **264330134836**

Option 1 ID : **264330528280**

Option 2 ID : **264330528281**

Option 3 ID : **264330528282**

Option 4 ID : **264330528279**

Status : **Answered**

Chosen Option : **2**

Multi Tasking Non Technical Staff and Havaladar CBIC and CBN Examination 2022

Roll Number	KD Job Updates
Candidate Name	KD Job Updates
Venue Name	iON Digital Zone iDZ Trinity 2 Headway 2 Kokta Bypass Road
Exam Date	02/05/2023
Exam Time	3:30 PM - 5:00 PM
Subject	MTS Non Tech Havaladar CBIC and CBN Examination 2022

Section : Numerical and Mathematical Ability

Q.1 Rs.8000 की राशि पर 2 वर्षों के लिए 15% वार्षिक दर पर वार्षिक रूप से संयोजित चक्रवृद्धि ब्याज ज्ञात कीजिए।

- Ans
- 1. Rs. 6345.51
 - 2. Rs. 2580.00
 - 3. Rs. 2778.81
 - 4. Rs. 26548.81

Question Type : MCQ
Question ID : 264330138758
Option 1 ID : 264330543639
Option 2 ID : 264330543642
Option 3 ID : 264330543641
Option 4 ID : 264330543640
Status : Answered
Chosen Option : 2

Q.2 मैनी ने Rs. 12000 में एक AC खरीदा और उसकी दुलाई के लिए Rs. 400 का भुगतान किया। फिर उसे Rs. 14000 में बेच दिया। उसका लाभ % ज्ञात कीजिए।

- Ans
- 1. 12.90%
 - 2. 13%
 - 3. 13.1%
 - 4. 12.80%

Question Type : MCQ
Question ID : 264330138753
Option 1 ID : 264330543620
Option 2 ID : 264330543619
Option 3 ID : 264330543622
Option 4 ID : 264330543621
Status : Answered
Chosen Option : 1

Q.3 प्रतिदिन 12 घंटे कार्य करते हुए, राज एक कार्य को 12 दिनों में पूरा कर सकता है। उसे प्रतिदिन कितने घंटे कार्य करना चाहिए ताकि वह उसी कार्य को 9 दिनों में पूरा कर सके?

- Ans
- 1. 12 घंटे
 - 2. 20 घंटे
 - 3. 24 घंटे
 - 4. 16 घंटे

Question Type : MCQ

Question ID : 264330138761

Option 1 ID : 264330543652

Option 2 ID : 264330543653

Option 3 ID : 264330543651

Option 4 ID : 264330543654

Status : Answered

Chosen Option : 4

Q.4 निम्नलिखित संख्याओं के समुच्चय का महत्तम समापवर्तक (HCF) क्या होगा: 30, 45, 150, ?

- Ans
- 1. 15
 - 2. 16
 - 3. 30
 - 4. 20

Question Type : MCQ

Question ID : 264330138748

Option 1 ID : 264330543599

Option 2 ID : 264330543600

Option 3 ID : 264330543601

Option 4 ID : 264330543602

Status : Answered

Chosen Option : 1

Q.5 अनीता ने 120 में से 36 अंक प्राप्त किए लेकिन बाद में उसके शिक्षक ने उसके 6 अंक बढ़ा दिए। उसके प्रतिशत में कितनी वृद्धि होगी?

- Ans
- 1. 6%
 - 2. 8%
 - 3. 10%
 - 4. 5%

Question Type : MCQ

Question ID : 264330138751

Option 1 ID : 264330543611

Option 2 ID : 264330543612

Option 3 ID : 264330543613

Option 4 ID : 264330543614

Status : Answered

Chosen Option : 4

Q.6 A1 अकेले किसी कार्य को 12 दिनों में कर सकता है और A2 अकेले उसी कार्य को 15 दिनों में कर सकता है। A3 की सहायता से वे दोनों उसी कार्य को 5 दिनों में पूरा कर लेते हैं। A3 अकेले उसी कार्य को कितने दिनों में कर सकता है?

- Ans
- 1. 27 दिन
 - 2. 24 दिन
 - 3. 20 दिन
 - 4. 16 दिन

Question Type : MCQ

Question ID : 264330137131

Option 1 ID : 264330537170

Option 2 ID : 264330537167

Option 3 ID : 264330537168

Option 4 ID : 264330537169

Status : Answered

Chosen Option : 3

Q.7 Rs. 2000 की राशि साधारण ब्याज की किसी दर पर 12 माह में Rs.2400 हो जाती है। वह वार्षिक ब्याज दर ज्ञात कीजिए।

- Ans
- 1. 40 %
 - 2. 45 %
 - 3. 25 %
 - 4. 20 %

Question Type : MCQ

Question ID : 264330138757

Option 1 ID : 264330543637

Option 2 ID : 264330543638

Option 3 ID : 264330543636

Option 4 ID : 264330543635

Status : Answered

Chosen Option : 4

Q.8 $\frac{1}{2}$ of $\frac{16}{5} + \frac{1}{8}$ of $\frac{24}{9} \times \frac{18}{12} - \frac{5}{8}$ का मान क्या है?

- Ans
- 1. $\frac{51}{40}$
 - 2. $\frac{59}{40}$
 - 3. $\frac{68}{39}$
 - 4. $\frac{61}{50}$

Question Type : MCQ

Question ID : 264330138700

Option 1 ID : 264330543410

Option 2 ID : 264330543407

Option 3 ID : 264330543408

Option 4 ID : 264330543409

Status : Answered

Chosen Option : 2

Q.9 एक कार्य दिवस में एक बच्चे द्वारा विभिन्न गतिविधियों पर बिताए गए घंटों की संख्या को तालिका में दर्शाया गया है। उसने सोने में कितने प्रतिशत समय बिताया?

Activities	Number of hours
School	8
Play	3
Sleep	8
Eat	2
Music	3
Total	24

Activities - गतिविधियाँ, Number of hours - घंटों की संख्या, School - स्कूल,

Play - खेलना, Sleep - सोना, Eat - खाना, Music - संगीत, Total - कुल

- Ans
- 1. 37.22%
 - 2. 33.33%
 - 3. 48.11%
 - 4. 41.12%

Question Type : MCQ

Question ID : 264330138716

Option 1 ID : 264330543474

Option 2 ID : 264330543472

Option 3 ID : 264330543473

Option 4 ID : 264330543471

Status : Answered

Chosen Option : 2

Q.10 एक दुकानदार अपने माल पर 20% का लाभ अर्जित करता है। चोरी के दौरान वह अपना 20% माल गँवा देता है। उसका लाभ या हानि प्रतिशत क्या है?

- Ans
- 1. 4% हानि
 - 2. 6% हानि
 - 3. 4% लाभ
 - 4. 6% लाभ

Question Type : MCQ

Question ID : 264330141028

Option 1 ID : 264330552460

Option 2 ID : 264330552462

Option 3 ID : 264330552459

Option 4 ID : 264330552461

Status : Answered

Chosen Option : 1

Q.11 13 cm लंबाई, 11 cm चौड़ाई और 20 cm ऊँचाई वाले घनाभ के सबसे लंबे विकर्ण की लंबाई क्या होगी?

- Ans 1. 26.27 cm
 2. 22.65 cm
 3. 23.45 cm
 4. 34.65 cm

Question Type : MCQ
Question ID : 264330138765
Option 1 ID : 264330543667
Option 2 ID : 264330543670
Option 3 ID : 264330543668
Option 4 ID : 264330543669
Status : Answered
Chosen Option : 4

Q.12 यदि $A : B = 3 : 2$, $B : C = 7 : 5$ और $C : D = 10 : 3$ है, तो $A : D$ निम्न में से किसके बराबर है?

- Ans 1. 7 : 1
 2. 1 : 7
 3. 4 : 3
 4. 3 : 4

Question Type : MCQ
Question ID : 264330138756
Option 1 ID : 264330543632
Option 2 ID : 264330543631
Option 3 ID : 264330543634
Option 4 ID : 264330543633
Status : Answered
Chosen Option : 1

Q.13 महेश, सुरेश और राजू मिलकर एक कार्य को 18 दिनों में पूरा कर सकते हैं। महेश और सुरेश मिलकर उसी कार्य को 72 दिनों में पूरा कर सकते हैं। राजू अकेले उसी कार्य को कितने दिनों में पूरा कर सकता है?

- Ans 1. 24 दिनों में
 2. 18 दिनों में
 3. 34 दिनों में
 4. 21 दिनों में

Question Type : MCQ
Question ID : 264330139056
Option 1 ID : 264330544832
Option 2 ID : 264330544834
Option 3 ID : 264330544831
Option 4 ID : 264330544833
Status : Answered
Chosen Option : 1

Q.14 एक कार को 20 घंटों में 288 km की दूरी तय करनी है। यदि वह समय के 1/5 भाग में आधी यात्रा तय करती है, तो बचे हुए समय में शेष दूरी को तय करने के लिए चाल जात कीजिए।

- Ans
- 1. 8 km/hr
 - 2. 7 km/hr
 - 3. 9 km/hr
 - 4. 6 km/hr

Question Type : MCQ

Question ID : 264330141017

Option 1 ID : 264330552417

Option 2 ID : 264330552418

Option 3 ID : 264330552416

Option 4 ID : 264330552415

Status : Answered

Chosen Option : 3

Q.15 37, 41 का लघुत्तम समापवर्त्य (LCM) क्या होगा?

- Ans
- 1. 1517
 - 2. 1765
 - 3. 1761
 - 4. 1254

Question Type : MCQ

Question ID : 264330135088

Option 1 ID : 264330529287

Option 2 ID : 264330529289

Option 3 ID : 264330529290

Option 4 ID : 264330529288

Status : Answered

Chosen Option : 1

Q.16 Rs. 1800 को A और B के बीच क्रमशः 2:3 के अनुपात में बाँटा जाता है। इसमें A का हिस्सा कितना है?

- Ans
- 1. Rs. 900
 - 2. Rs. 840
 - 3. Rs. 720
 - 4. Rs. 780

Question Type : MCQ

Question ID : 264330138755

Option 1 ID : 264330543630

Option 2 ID : 264330543629

Option 3 ID : 264330543627

Option 4 ID : 264330543628

Status : Answered

Chosen Option : 3

Q.17 6 के पहले चार गुणकों का औसत क्या है?

- Ans
- 1. 14
 - 2. 25
 - 3. 15
 - 4. 20

Question Type : MCQ

Question ID : 264330138749

Option 1 ID : 264330543603

Option 2 ID : 264330543606

Option 3 ID : 264330543605

Option 4 ID : 264330543604

Status : Answered

Chosen Option : 3

Q.18 पेन के बॉक्स का क्रय मूल्य Rs.400 है। दुकानदार ने क्रय मूल्य पर 10% का बड़ा दिया। विक्रय मूल्य क्या होगा?

- Ans
- 1. Rs. 350
 - 2. Rs. 360
 - 3. Rs. 380
 - 4. Rs. 300

Question Type : MCQ

Question ID : 264330138754

Option 1 ID : 264330543624

Option 2 ID : 264330543625

Option 3 ID : 264330543626

Option 4 ID : 264330543623

Status : Answered

Chosen Option : 2

Q.19 एक लम्बवृत्तीय बेलन की विज्या उसकी ऊँचाई की तीन गुनी है। यदि बेलन की ऊँचाई 3.5 cm है, तो बेलन का आयतन कितना है?

- Ans
- 1. 1212.75 cm³
 - 2. 1468.25 cm³
 - 3. 1124.25 cm³
 - 4. 1324.75 cm³

Question Type : MCQ

Question ID : 264330139069

Option 1 ID : 264330544885

Option 2 ID : 264330544883

Option 3 ID : 264330544884

Option 4 ID : 264330544886

Status : Answered

Chosen Option : 1

Q.20 एक वृत्ताकार पथ की बाहरी और आंतरिक परिधि का अनुपात 17 : 15 है। यदि पथ की चौड़ाई 40 मीटर है, तो आंतरिक वृत्त की विज्या कितनी है?

- Ans
- 1. 360 मीटर
 - 2. 280 मीटर
 - 3. 300 मीटर
 - 4. 340 मीटर

Question Type : MCQ

Question ID : 264330137146

Option 1 ID : 264330537230

Option 2 ID : 264330537229

Option 3 ID : 264330537228

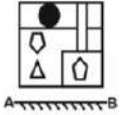
Option 4 ID : 264330537227

Status : Answered

Chosen Option : 1

Section : Reasoning Ability and Problem Solving

Q.1 यदि एक दर्पण को रेखा AB पर रखा जाए, तो दिए गए विकल्पों में से कौन-सी आकृति प्रश्न आकृति का सही प्रतिबिम्ब होगी?



Ans

- 1.
- 2.
- 3.
- 4.

Question Type : MCQ

Question ID : 264330138580

Option 1 ID : 264330542927

Option 2 ID : 264330542929

Option 3 ID : 264330542928

Option 4 ID : 264330542930

Status : Answered

Chosen Option : 3

Q.2 एक निश्चित कूट भाषा में, 'MEDIUM' को 'LDCGSK' लिखा जाता है। उस कूट भाषा में 'PREFER' को कैसे लिखा जाएगा?

- Ans
- 1. OQCDDP
 - 2. OQDDCP
 - 3. OQDDBQ
 - 4. OQDDDP

Question Type : MCQ

Question ID : 264330138833

Option 1 ID : 264330543942

Option 2 ID : 264330543939

Option 3 ID : 264330543940

Option 4 ID : 264330543941

Status : Answered

Chosen Option : 2

Q.3 उस विकल्प को चुनिए जिसमें समुच्चय की संख्याएँ वही संबंध साझा करती हैं जो दिए गए समुच्चय में संख्याओं द्वारा साझा किया जाता है। (ध्यान दें: संख्याओं को उनके घटक अंकों में अलग-अलग किए बिना, पूर्ण संख्याओं पर संक्रियाएँ की जानी चाहिए। उदा. 13 - 13 पर संक्रियाएँ जैसे 13 को जोड़ना /घटाना /गुणा करना आदि किया जा सकता है। 13 को 1 और 3 में अलग-अलग करने और फिर 1 और 3 पर गणितीय संक्रियाएँ करने की अनुमति नहीं है)

(14, 20, 26)

(22, 28, 34)

- Ans
- 1. (32, 38, 44)
 - 2. (25, 30, 44)
 - 3. (10, 20, 24)
 - 4. (4, 6, 11)

Question Type : MCQ

Question ID : 264330138618

Option 1 ID : 264330543082

Option 2 ID : 264330543081

Option 3 ID : 264330543080

Option 4 ID : 264330543079

Status : Answered

Chosen Option : 1

Q.4 एक श्रृंखला दी गई है जिसमें एक पद लुप्त है। दिए गए विकल्पों में से उस सही विकल्प को चुनिए जो श्रृंखला को पूरा करेगा।

MOG, OMI, QKK, SIM, ?

- Ans
- 1. VHO
 - 2. UHO
 - 3. VGO
 - 4. UGO

Question Type : MCQ

Question ID : 264330138603

Option 1 ID : 264330543022

Option 2 ID : 264330543021

Option 3 ID : 264330543020

Option 4 ID : 264330543019

Status : Answered

Chosen Option : 4

Q.5 दी गई दो संख्याओं को आपस में बदलने पर, दिए गए समीकरण का मान क्या होगा?

$$6 \text{ और } 2 ; 9 \div 2 \times 6 + 5 - 1$$

- Ans
- 1. 9
 - 2. 5
 - 3. 13
 - 4. 7

Question Type : MCQ

Question ID : 264330138619

Option 1 ID : 264330543085

Option 2 ID : 264330543084

Option 3 ID : 264330543086

Option 4 ID : 264330543083

Status : Answered

Chosen Option : 4

Q.6 आठ लड़के अनिल, कमल, राम, संजय, आकाश, विवेक, राहुल और रामू एक वृत्ताकार मेज के चारों ओर केंद्र की ओर मुख करके बैठे हैं (परंतु जरूरी नहीं कि वे इसी क्रम में बैठें हों)। विवेक, अनिल के दाईं ओर से दूसरे स्थान पर है। अनिल, रामू के दाईं ओर से चौथे स्थान पर है। संजय, राम के दाईं ओर से तीसरे स्थान पर है। राम, विवेक या कमल का निकटतम पड़ोसी नहीं है। रामू, राहुल का निकटतम पड़ोसी नहीं है।

अनिल और राम का निकटतम पड़ोसी कौन है?

- Ans
- 1. रामू
 - 2. संजय
 - 3. राहुल
 - 4. विवेक

Question Type : MCQ

Question ID : 264330138610

Option 1 ID : 264330543050

Option 2 ID : 264330543048

Option 3 ID : 264330543047

Option 4 ID : 264330543049

Status : Answered

Chosen Option : 3

Q.7 उस विकल्प को चुनिए जो चौथे पद से ठीक उसी प्रकार संबंधित है जिस प्रकार पहला पद दूसरे पद से संबंधित है और पाँचवाँ पद छठवें पद से संबंधित है।

AJM : KHY :: ? : TBC :: PKS : QIN

- Ans
- 1. FDV
 - 2. FCU
 - 3. EDV
 - 4. EDU

Question Type : MCQ

Question ID : 264330138605

Option 1 ID : 264330543028

Option 2 ID : 264330543030

Option 3 ID : 264330543027

Option 4 ID : 264330543029

Status : Answered

Chosen Option : 3

Q.8 दी गई दो संख्याओं को (न कि अंकों को) आपस में बदलने पर, निम्नलिखित में से कौन-सा समीकरण सही नहीं होगा?

5 और 6

- Ans
- 1. $6 - 5 + 2 = 1$
 - 2. $6 \times 8 - 5 \times 4 = 16$
 - 3. $5 \times 2 - 4 + 6 = 13$
 - 4. $5 - 3 \times 6 + 4 = -3$

Question Type : MCQ
Question ID : 264330138620
Option 1 ID : 264330543090
Option 2 ID : 264330543088
Option 3 ID : 264330543087
Option 4 ID : 264330543089
Status : Answered
Chosen Option : 4

Q.9 निम्नलिखित प्रश्न में, दी गई श्रृंखला में लुप्त संख्या को चुनिए।

94, 105, 92, 107, 90, ?

- Ans
- 1. 109
 - 2. 115
 - 3. 110
 - 4. 122

Question Type : MCQ
Question ID : 264330138616
Option 1 ID : 264330543071
Option 2 ID : 264330543074
Option 3 ID : 264330543072
Option 4 ID : 264330543073
Status : Answered
Chosen Option : 1

Q.10 एक निश्चित कूट भाषा में, 'GLOBE' को '40' लिखा जाता है, 'GRASS' को '63' लिखा जाता है। उस कूट भाषा में 'HANDY' को कैसे लिखा जाएगा?

- Ans
- 1. 51
 - 2. 50
 - 3. 49
 - 4. 52

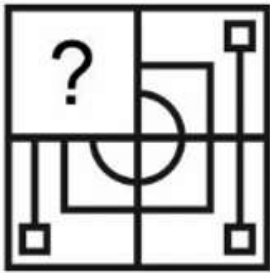
Question Type : MCQ
Question ID : 264330137091
Option 1 ID : 264330537010
Option 2 ID : 264330537009
Option 3 ID : 264330537008
Option 4 ID : 264330537007
Status : Answered
Chosen Option : 1

Q.11 किसी एक खास कूट भाषा में, 'FAN' को '21' लिखा जाता है। उस भाषा में 'TORCH' को कैसे लिखा जाएगा?

- Ans
- ✗ 1. 53
 - ✓ 2. 64
 - ✗ 3. 74
 - ✗ 4. 23

Question Type : MCQ
Question ID : 264330133391
Option 1 ID : 264330522596
Option 2 ID : 264330522598
Option 3 ID : 264330522597
Option 4 ID : 264330522595
Status : Answered
Chosen Option : 2

Q.12 कौन-सी उत्तर आकृति प्रश्न आकृति में दिए गए पैटर्न को पूरा करेगी?



Ans

- ✗ 1.
- ✗ 2.
- ✗ 3.
- ✓ 4.

Question Type : MCQ
Question ID : 264330138623
Option 1 ID : 264330543099
Option 2 ID : 264330543100
Option 3 ID : 264330543102
Option 4 ID : 264330543101
Status : Answered
Chosen Option : 4

Q.13 आठ लड़के अनिल, कमल, राम, संजय, आकाश, विवेक, राहुल और रामू एक वृत्ताकार मेज के चारों ओर केंद्र से विपरीत दिशा की ओर मुख करके बैठे हैं (परंतु जरूरी नहीं कि वे इसी क्रम में बैठे हों)। रामू, आकाश या संजय का निकटतम पड़ोसी नहीं है। रामू, अनिल के ठीक दाईं ओर है। राहुल, आकाश का निकटतम पड़ोसी है। विवेक, कमल के ठीक बाईं ओर है। राम, आकाश और विवेक दोनों का निकटतम पड़ोसी है। संजय के बाईं ओर से तीसरे स्थान पर कौन बैठा है?

- Ans
- 1. राहुल
 - 2. राम
 - 3. आकाश
 - 4. विवेक

Question Type : MCQ
Question ID : 264330138611
Option 1 ID : 264330543051
Option 2 ID : 264330543052
Option 3 ID : 264330543054
Option 4 ID : 264330543053
Status : Answered
Chosen Option : 2

Q.14 निम्नलिखित प्रश्न में, दी गई श्रृंखला में लुप्त संख्या को चुनिए।

50, 39, 27, 14, 0, ?

- Ans
- 1. -8
 - 2. -14
 - 3. -10
 - 4. -15

Question Type : MCQ
Question ID : 264330138615
Option 1 ID : 264330543069
Option 2 ID : 264330543070
Option 3 ID : 264330543068
Option 4 ID : 264330543067
Status : Answered
Chosen Option : 4

Q.15 छः गेंदबाजों अनिल, कमल, लक्ष्मण, मोहन, बिट्टू और राहुल द्वारा लिए गए विकेटों की संख्या की तुलना की जाती है। कमल द्वारा लिए गए विकेटों की संख्या केवल अनिल द्वारा लिए गए विकेटों की संख्या से अधिक है। बिट्टू द्वारा लिए गए विकेटों की संख्या केवल दो गेंदबाजों से कम है। मोहन द्वारा लिए गए विकेटों की संख्या बिट्टू से अधिक नहीं है। निम्नलिखित में से किसने बिट्टू से अधिक विकेट लिए हैं?

- Ans
- 1. राहुल
 - 2. अनिल
 - 3. मोहन
 - 4. कमल

Question Type : MCQ
Question ID : 264330138612
Option 1 ID : 264330543058
Option 2 ID : 264330543057
Option 3 ID : 264330543055
Option 4 ID : 264330543056
Status : Answered
Chosen Option : 1

Q.16 उस विकल्प को चुनिए जो पाँचवें पद से ठीक उसी प्रकार संबंधित है जिस प्रकार दूसरा पद पहले पद से संबंधित है और चौथा पद तीसरे पद से संबंधित है।

TOP : ZIW :: PAM : VUT :: SQB : ?

- Ans
- ✓ 1. YKI
 - ✗ 2. XKI
 - ✗ 3. YKJ
 - ✗ 4. ZKI

Question Type : MCQ

Question ID : 264330138606

Option 1 ID : 264330543034

Option 2 ID : 264330543033

Option 3 ID : 264330543032

Option 4 ID : 264330543031

Status : Answered

Chosen Option : 1

Q.17 उस विकल्प आकृति को चुनिए जिसमें दी गई आकृति निहित है। (घूर्णन की अनुमति नहीं है)



Ans

- ✓ 1.
- ✗ 2.
- ✗ 3.
- ✗ 4.

Question Type : MCQ

Question ID : 264330138579

Option 1 ID : 264330542923

Option 2 ID : 264330542924

Option 3 ID : 264330542926

Option 4 ID : 264330542925

Status : Answered

Chosen Option : 1

Q.18 उस विकल्प को चुनिए जो पाँचवीं संख्या से ठीक उसी प्रकार संबंधित है जिस प्रकार दूसरी संख्या पहली संख्या से संबंधित है और चौथी संख्या तीसरी संख्या से संबंधित है।

11 : 122 :: 14 : 197 :: 18 : ?

- Ans
- 1. 317
 - 2. 328
 - 3. 320
 - 4. 325

Question Type : MCQ

Question ID : 264330138617

Option 1 ID : 264330543078

Option 2 ID : 264330543076

Option 3 ID : 264330543077

Option 4 ID : 264330543075

Status : Answered

Chosen Option : 4

Q.19 निम्नलिखित प्रश्न में कुछ कथन दिए गए हैं और उन कथनों के आधार पर कुछ निष्कर्ष दिए गए हैं। आपको मानना है कि दिए गए कथन सत्य हैं चाहे वे सामान्यतः ज्ञात तथ्यों से अलग प्रतीत होते हों। सभी निष्कर्षों को पढ़िए और फिर निश्चय कीजिए कि दिए गए निष्कर्षों में से कौन-सा निष्कर्ष तार्किक रूप से दिए गए कथनों के अनुसार है।

कथन:

I. सभी R, M हैं।

II. कुछ S, R हैं।

निष्कर्ष:

I. कुछ R, S हैं।

II. कुछ M, R नहीं हैं।

III. कुछ R, M हैं।

- Ans
- 1. दोनों निष्कर्ष I और III कथनों के अनुसार हैं
 - 2. सभी निष्कर्ष कथनों के अनुसार हैं
 - 3. दोनों निष्कर्ष I और II कथनों के अनुसार हैं
 - 4. केवल निष्कर्ष II कथनों के अनुसार है

Question Type : MCQ

Question ID : 264330138614

Option 1 ID : 264330543065

Option 2 ID : 264330543064

Option 3 ID : 264330543063

Option 4 ID : 264330543066

Status : Answered

Chosen Option : 1

Q.20 निम्नलिखित प्रश्न में कुछ कथन दिए गए हैं और उन कथनों के आधार पर कुछ निष्कर्ष दिए गए हैं। आपको मानना है कि दिए गए कथन सत्य हैं चाहे वे सामान्यतः ज्ञात तथ्यों से अलग प्रतीत होते हों। सभी निष्कर्षों को पढ़िए और फिर निश्चय कीजिए कि दिए गए निष्कर्षों में से कौन-सा निष्कर्ष तार्किक रूप से दिए गए कथनों के अनुसार है।

कथन:

I. कोई J, K नहीं है।

II. कुछ K, L हैं।

निष्कर्ष:

I. कुछ K, J नहीं हैं।

II. कुछ L, J नहीं हैं।

- Ans**
- 1. केवल निष्कर्ष I कथनों के अनुसार है
 - 2. दोनों निष्कर्ष I और II कथनों के अनुसार हैं
 - 3. केवल निष्कर्ष II कथनों के अनुसार है
 - 4. कोई भी निष्कर्ष कथनों के अनुसार नहीं है

Question Type : **MCQ**

Question ID : **264330138613**

Option 1 ID : **264330543059**

Option 2 ID : **264330543061**

Option 3 ID : **264330543060**

Option 4 ID : **264330543062**

Status : **Answered**

Chosen Option : **2**

Section : **General Awareness**

Q.1 लखनऊ समझौते (Lucknow Pact) पर _____ के बीच हस्ताक्षर हुए थे।

- Ans**
- 1. भारतीय राष्ट्रीय कांग्रेस और आर्य समाज
 - 2. भारतीय राष्ट्रीय कांग्रेस और मुस्लिम लीग
 - 3. भारतीय राष्ट्रीय कांग्रेस और सैय्यद अहमद खान
 - 4. मुस्लिम लीग और महात्मा गांधी

Question Type : **MCQ**

Question ID : **264330138648**

Option 1 ID : **264330543202**

Option 2 ID : **264330543201**

Option 3 ID : **264330543200**

Option 4 ID : **264330543199**

Status : **Answered**

Chosen Option : **2**

Q.2 ग़ज़नी के सुलतान महमूद ने किस प्रसिद्ध भारतीय मंदिर पर हमला किया था?

- Ans
- 1. यमुनोत्री मंदिर, उत्तराखंड
 - 2. लिंगराज मंदिर, उड़ीसा
 - 3. सोमनाथ मंदिर, गुजरात
 - 4. जगन्नाथ पुरी मंदिर, उड़ीसा

Question Type : MCQ

Question ID : 264330138696

Option 1 ID : 264330543394

Option 2 ID : 264330543392

Option 3 ID : 264330543393

Option 4 ID : 264330543391

Status : Answered

Chosen Option : 3

Q.3 पॉमेल हॉर्स (Pommel Horse), रोमन रिंग्स (Roman Rings) और वॉल्टिंग टेबल (Vaulting Table) का संबंध निम्नलिखित में से किस खेल से है?

- Ans
- 1. पोलो
 - 2. तैराकी
 - 3. घुड़सवारी
 - 4. जिम्नास्टिक्स

Question Type : MCQ

Question ID : 264330138678

Option 1 ID : 264330543321

Option 2 ID : 264330543320

Option 3 ID : 264330543322

Option 4 ID : 264330543319

Status : Answered

Chosen Option : 4

Q.4 'द ज़ोया फैक्टर (The Zoya Factor)' _____ द्वारा लिखित एक उपन्यास है।

- Ans
- 1. सुकेतु मेहता
 - 2. अनुजा चौहान
 - 3. जेरी पिंटो
 - 4. राजश्री

Question Type : MCQ

Question ID : 264330133886

Option 1 ID : 264330524568

Option 2 ID : 264330524567

Option 3 ID : 264330524570

Option 4 ID : 264330524569

Status : Answered

Chosen Option : 2

Q.5 "अर्थशास्त्र (Arthashastra)" _____ द्वारा लिखा गया था।

- Ans
- 1. चंद्रगुप्त
 - 2. कालिदास
 - 3. चाणक्य
 - 4. विष्णु शर्मा

Question Type : MCQ
Question ID : 264330138645
Option 1 ID : 264330543189
Option 2 ID : 264330543187
Option 3 ID : 264330543188
Option 4 ID : 264330543190
Status : Answered
Chosen Option : 3

Q.6 जीव विज्ञान में, " IVF " शब्द का पूर्णरूप _____ है।

- Ans
- 1. इंटरनल विट्रो फ्रेग्मेंटेशन (Internal vitro fragmentation)
 - 2. इन विट्रो फर्टिलाइजेशन (In vitro fertilization)
 - 3. इन विट्रो फ्रेग्मेंटेशन (In vitro fragmentation)
 - 4. इंटरनल वेनम फ्रॉस्टिंग (Internal venom frosting)

Question Type : MCQ
Question ID : 264330138688
Option 1 ID : 264330543361
Option 2 ID : 264330543360
Option 3 ID : 264330543359
Option 4 ID : 264330543362
Status : Answered
Chosen Option : 1

Q.7 भूत आराधना अनुष्ठानिक नृत्य "भूत कोला" का संबंध किस राज्य से है?

- Ans
- 1. आंध्रप्रदेश
 - 2. केरल
 - 3. कर्नाटक
 - 4. तमिलनाडु

Question Type : MCQ
Question ID : 264330138674
Option 1 ID : 264330543306
Option 2 ID : 264330543305
Option 3 ID : 264330543303
Option 4 ID : 264330543304
Status : Answered
Chosen Option : 3

Q.8 1854 में ईस्ट इंडिया कंपनी के कोर्ट ऑफ डायरेक्टर्स द्वारा भेजा गया वुड का नीतिपत्र (वुड्स डिस्पैच) _____ से संबंधित था।

- Ans
- 1. अकाल
 - 2. शिक्षा
 - 3. सैन्य
 - 4. कपड़ा

Question Type : MCQ
Question ID : 264330138697
Option 1 ID : 264330543396
Option 2 ID : 264330543398
Option 3 ID : 264330543395
Option 4 ID : 264330543397
Status : Answered
Chosen Option : 3

Q.9 भारत का पड़ोसी देश नेपाल भारत के _____ में स्थित है

- Ans
- 1. पूर्व
 - 2. उत्तर
 - 3. पश्चिम
 - 4. दक्षिण

Question Type : MCQ
Question ID : 264330135496
Option 1 ID : 264330530891
Option 2 ID : 264330530894
Option 3 ID : 264330530892
Option 4 ID : 264330530893
Status : Answered
Chosen Option : 2

Q.10 किस मुगल सम्राट ने एलोरा के कैलाश मंदिर को तोड़ने का प्रयास किया था?

- Ans
- 1. औरंगज़ेब
 - 2. शाहजहाँ
 - 3. हुमायूँ
 - 4. बाबर

Question Type : MCQ
Question ID : 264330138676
Option 1 ID : 264330543314
Option 2 ID : 264330543313
Option 3 ID : 264330543312
Option 4 ID : 264330543311
Status : Answered
Chosen Option : 1

Q.11 जब नदी मैदानी क्षेत्र में प्रवेश करती है, तो वह मोड़दार मार्ग पर बहने लगती है। नदी के इन्हीं बड़े मोड़ों को _____ कहते हैं।

- Ans
- ✓ 1. विसर्प
 - ✗ 2. चापझील
 - ✗ 3. तटबंध
 - ✗ 4. स्टैक

Question Type : MCQ
Question ID : 264330138689
Option 1 ID : 264330543363
Option 2 ID : 264330543364
Option 3 ID : 264330543365
Option 4 ID : 264330543366
Status : Answered
Chosen Option : 1

Q.12 पत्तियों में एक हरा वर्णक होता है, जिसे _____ कहते हैं। यह सूर्य के प्रकाश की ऊर्जा का संग्रहण करने में पत्तियों की सहायता करता है।

- Ans
- ✗ 1. कोशिका द्रव्य
 - ✗ 2. जैथोफिल
 - ✓ 3. क्लोरोफिल
 - ✗ 4. क्लैडोफिल

Question Type : MCQ
Question ID : 264330138687
Option 1 ID : 264330543356
Option 2 ID : 264330543357
Option 3 ID : 264330543358
Option 4 ID : 264330543355
Status : Answered
Chosen Option : 3

Q.13 भारत में, राष्ट्रीय मतदाता दिवस _____ को मनाया जाता है।

- Ans
- ✗ 1. 24 फरवरी
 - ✓ 2. 25 जनवरी
 - ✗ 3. 27 दिसंबर
 - ✗ 4. 26 मार्च

Question Type : MCQ
Question ID : 264330138685
Option 1 ID : 264330543347
Option 2 ID : 264330543348
Option 3 ID : 264330543350
Option 4 ID : 264330543349
Status : Answered
Chosen Option : 4

Q.14 एक बैंक के लिये, मुख्य देनदारी इसकी/इसके _____ हैं।

- Ans
- 1. आस्तियाँ
 - 2. आर्थिक लगान
 - 3. जमाएँ
 - 4. ऋण

Question Type : MCQ
Question ID : 264330133891
Option 1 ID : 264330524587
Option 2 ID : 264330524588
Option 3 ID : 264330524590
Option 4 ID : 264330524589
Status : Answered
Chosen Option : 3

Q.15 वर्ष 1965 में 'पद्म श्री' प्राप्त करने वाली मृणालिनी साराभाई _____ की एक जानी मानी नर्तकी थीं।

- Ans
- 1. भरतनाट्यम
 - 2. कुचिपुड़ी
 - 3. मणिपुरी
 - 4. ओडिसी

Question Type : MCQ
Question ID : 264330133888
Option 1 ID : 264330524577
Option 2 ID : 264330524578
Option 3 ID : 264330524575
Option 4 ID : 264330524576
Status : Answered
Chosen Option : 1

Q.16 जून 2022 में, भारतीय रिज़र्व बैंक (RBI) ने _____ शीर्षक के साथ एक रिपोर्ट जारी की है।

- Ans
- 1. पेमेंट्स विजन (Payments Vision) 2025
 - 2. पेमेंट्स विजन (Payments Vision) 2030
 - 3. डिजिटल करेंसी विजन (Digital Currency Vision) 2025
 - 4. डिजिटल करेंसी विजन (Digital Currency Vision) 2030

Question Type : MCQ
Question ID : 264330138683
Option 1 ID : 264330543339
Option 2 ID : 264330543340
Option 3 ID : 264330543341
Option 4 ID : 264330543342
Status : Answered
Chosen Option : 3

Q.17 इस भारतीय संगीत हस्ती को पहचानिए।

इनके तत्वाधान में शहनाई एक अनुष्ठानिक वाद्ययंत्र मात्र न रहकर एक शास्त्रीय संगीत वाद्ययंत्र के रूप में पहचानी जाने लगी।

Ans

- 1. उस्ताद बुंदू खां
- 2. उस्ताद बिस्मिल्ला खां
- 3. अल्ला रक्खा
- 4. पंडित राम नारायण

Question Type : MCQ

Question ID : 264330138680

Option 1 ID : 264330543329

Option 2 ID : 264330543327

Option 3 ID : 264330543328

Option 4 ID : 264330543330

Status : Answered

Chosen Option : 2

Q.18 जियोर्जिया मेलोनी (Giorgia Meloni) हाल ही में किस देश की पहली महिला प्रधानमंत्री बनीं?

Ans

- 1. स्पेन
- 2. यूक्रेन
- 3. ऑस्ट्रिया
- 4. इटली

Question Type : MCQ

Question ID : 264330138682

Option 1 ID : 264330543335

Option 2 ID : 264330543337

Option 3 ID : 264330543338

Option 4 ID : 264330543336

Status : Answered

Chosen Option : 4

Q.19 भारतवर्ष में, कौन-से वन बहुतायत में पाए जाते हैं?

Ans

- 1. पर्वतीय वन
- 2. उष्ण कटिबंधीय सदाबहार वन
- 3. मैंग्रोव वन
- 4. उष्ण कटिबंधीय पर्णपाती वन

Question Type : MCQ

Question ID : 264330138692

Option 1 ID : 264330543378

Option 2 ID : 264330543376

Option 3 ID : 264330543375

Option 4 ID : 264330543377

Status : Answered

Chosen Option : 2

Q.20 टेबल टेनिस में, टेबल की ऊपरी सतह की लंबाई _____ होती है।

- Ans
- 1. 780 cm
 - 2. 274 cm
 - 3. 270 cm
 - 4. 264 cm

Question Type : MCQ
Question ID : 264330138677
Option 1 ID : 264330543318
Option 2 ID : 264330543317
Option 3 ID : 264330543316
Option 4 ID : 264330543315
Status : Answered
Chosen Option : 4

Q.21 जो प्रतिबिंब पर्दे पर प्राप्त किया जा सके, _____ कहलाता है।

- Ans
- 1. वास्तविक प्रतिबिंब
 - 2. वर्णक्रमीय प्रतिबिंब
 - 3. आभासी प्रतिबिंब
 - 4. वेक्टर प्रतिबिंब

Question Type : MCQ
Question ID : 264330138690
Option 1 ID : 264330543367
Option 2 ID : 264330543370
Option 3 ID : 264330543368
Option 4 ID : 264330543369
Status : Answered
Chosen Option : 1

Q.22 निम्नलिखित में से कौन-सा मोटे अनाज का एक उदाहरण नहीं है?

- Ans
- 1. गेहूँ
 - 2. ज्वार
 - 3. रागी
 - 4. बाजरा

Question Type : MCQ
Question ID : 264330133898
Option 1 ID : 264330524616
Option 2 ID : 264330524615
Option 3 ID : 264330524618
Option 4 ID : 264330524617
Status : Answered
Chosen Option : 3

Q.23 किसी राष्ट्र की जनसंख्या के कार्यशील आयु वर्ग को समान्यतः_____ के बीच वर्गीकृत किया जाता है।

- Ans
- 1. 16 - 60 वर्ष
 - 2. 15 - 59 वर्ष
 - 3. 18 - 62 वर्ष
 - 4. 14 - 58 वर्ष

Question Type : MCQ

Question ID : 264330138915

Option 1 ID : 264330544269

Option 2 ID : 264330544268

Option 3 ID : 264330544270

Option 4 ID : 264330544267

Status : Answered

Chosen Option : 3

Q.24 भारतीय संविधान का निम्नलिखित में से कौन-सा अनुच्छेद "नागरिकों के लिए समान नागरिक संहिता" से संबंधित है?

- Ans
- 1. अनुच्छेद 42
 - 2. अनुच्छेद 41
 - 3. अनुच्छेद 43
 - 4. अनुच्छेद 44

Question Type : MCQ

Question ID : 264330138686

Option 1 ID : 264330543352

Option 2 ID : 264330543351

Option 3 ID : 264330543353

Option 4 ID : 264330543354

Status : Answered

Chosen Option : 2

Q.25 हॉर्नबिल महोत्सव निम्नलिखित में से किस राज्य में मनाया जाता है?

- Ans
- 1. तमिलनाडु
 - 2. राजस्थान
 - 3. लद्दाख
 - 4. नगालैंड

Question Type : MCQ

Question ID : 264330138625

Option 1 ID : 264330543107

Option 2 ID : 264330543110

Option 3 ID : 264330543108

Option 4 ID : 264330543109

Status : Answered

Chosen Option : 4

Q.1 In the following question, out of the given four alternatives, select the alternative which best expresses the meaning of the Idiom/Phrase.

Beat about the bush

- Ans**
- 1. Play tricks with someone
 - 2. Avoid talking about the main topic
 - 3. Divide something into many parts
 - 4. To plan an ambush

Question Type : **MCQ**
Question ID : **264330136815**
Option 1 ID : **264330535956**
Option 2 ID : **264330535958**
Option 3 ID : **264330535957**
Option 4 ID : **264330535955**
Status : **Answered**
Chosen Option : **2**

Q.2 A sentence has been given with a blank to be filled with an appropriate option. Choose the correct alternative.

It's _____ for someone to buy a product that contains no sugar.

- Ans**
- 1. easiest
 - 2. easier
 - 3. ease
 - 4. easily

Question Type : **MCQ**
Question ID : **264330136802**
Option 1 ID : **264330535910**
Option 2 ID : **264330535908**
Option 3 ID : **264330535909**
Option 4 ID : **264330535907**
Status : **Answered**
Chosen Option : **2**

Q.3 Choose the incorrectly spelt word.

- Ans**
- 1. Lastly
 - 2. Boldly
 - 3. Happilly
 - 4. Barely

Question Type : **MCQ**
Question ID : **264330136817**
Option 1 ID : **264330535965**
Option 2 ID : **264330535966**
Option 3 ID : **264330535964**
Option 4 ID : **264330535963**
Status : **Answered**
Chosen Option : **3**

Q.4 Select the most appropriate option to fill in the blank.

She reduced the volume because the _____ music was becoming too much for her.

- Ans
- 1. competent
 - 2. constant
 - 3. concede
 - 4. content

Question Type : MCQ
Question ID : 264330136820
Option 1 ID : 264330535978
Option 2 ID : 264330535976
Option 3 ID : 264330535975
Option 4 ID : 264330535977
Status : Answered
Chosen Option : 2

Q.5 Choose the word that can substitute the given group of words.

The art of cutting gems

- Ans
- 1. Mining
 - 2. Lapidary
 - 3. Jewelry
 - 4. Philately

Question Type : MCQ
Question ID : 264330136810
Option 1 ID : 264330535936
Option 2 ID : 264330535937
Option 3 ID : 264330535935
Option 4 ID : 264330535938
Status : Answered
Chosen Option : 2

Q.6 Choose the word that is opposite in meaning to the given word.

Abridge

- Ans
- 1. Syncopate
 - 2. Taper
 - 3. Fortify
 - 4. Elongate

Question Type : MCQ
Question ID : 264330136813
Option 1 ID : 264330535947
Option 2 ID : 264330535950
Option 3 ID : 264330535949
Option 4 ID : 264330535948
Status : Answered
Chosen Option : 4

Q.7 Select the appropriate synonym for the underlined word.

You were mad at me for having the same ability as you.

- Ans
- 1. Flexibility
 - 2. Skill
 - 3. Feature
 - 4. Inefficacy

Question Type : MCQ
Question ID : 264330136811
Option 1 ID : 264330535942
Option 2 ID : 264330535941
Option 3 ID : 264330535940
Option 4 ID : 264330535939
Status : Answered
Chosen Option : 2

Q.8 Choose the word that can substitute the given group of words.

The sound made by frogs

- Ans
- 1. Moo
 - 2. Roar
 - 3. Croak
 - 4. Trumpet

Question Type : MCQ
Question ID : 264330136809
Option 1 ID : 264330535932
Option 2 ID : 264330535934
Option 3 ID : 264330535933
Option 4 ID : 264330535931
Status : Answered
Chosen Option : 2

Q.9 Improve the underlined part of the sentence. Choose 'No improvement' as an answer if the sentence is grammatically correct.

At the grocery store, coffee is in an same aisles as tea.

- Ans
- 1. a same aisles as
 - 2. same aisle is
 - 3. No improvement
 - 4. the same aisle as

Question Type : MCQ
Question ID : 264330136850
Option 1 ID : 264330536091
Option 2 ID : 264330536093
Option 3 ID : 264330536094
Option 4 ID : 264330536092
Status : Answered
Chosen Option : 1

Q.10 Improve the underlined part of the sentence. Choose 'No improvement' as an answer if the sentence is grammatically correct.

I had to got up early, so I have been in a daze all morning.

- Ans**
- 1. has to get on
 - 2. No improvement
 - 3. had to get up
 - 4. have to got in

Question Type : **MCQ**
Question ID : **264330136826**
Option 1 ID : **264330535999**
Option 2 ID : **264330536002**
Option 3 ID : **264330536000**
Option 4 ID : **264330536001**
Status : **Answered**
Chosen Option : **3**

Q.11 Select the wrongly spelt word.

- Ans**
- 1. Decorous
 - 2. Declivity
 - 3. Copous
 - 4. Cosmopolitan

Question Type : **MCQ**
Question ID : **264330136740**
Option 1 ID : **264330535670**
Option 2 ID : **264330535669**
Option 3 ID : **264330535668**
Option 4 ID : **264330535667**
Status : **Answered**
Chosen Option : **3**

Q.12 Find the part of the given sentence that has an error in it. If there is no error, choose 'No error'.
Factoring is, of course, different from and superior than bill discounting, from the point of view of a small company.

- Ans**
- 1. view of a small company.
 - 2. No error
 - 3. bill discounting, from the point of
 - 4. Factoring is, of course, different from and superior than

Question Type : **MCQ**
Question ID : **264330136797**
Option 1 ID : **264330535889**
Option 2 ID : **264330535890**
Option 3 ID : **264330535888**
Option 4 ID : **264330535887**
Status : **Answered**
Chosen Option : **4**

Q.13 Select the most appropriate option to fill in the blank.

The last man standing was _____, a fully paid vacation to Las Vegas.

Ans 1. appreciated

2. rewarded

3. allotted

4. discarded

Question Type : **MCQ**

Question ID : **264330136741**

Option 1 ID : **264330535671**

Option 2 ID : **264330535672**

Option 3 ID : **264330535674**

Option 4 ID : **264330535673**

Status : **Answered**

Chosen Option : **3**

Q.14 In the following question, out of the given four alternatives, select the alternative which best expresses the meaning of the Idiom/Phrase.

A bed of nails

Ans 1. A person with no moral ethics

2. A fiercely contested fight or dispute

3. A quick and automatic response

4. A problematic or uncomfortable situation

Question Type : **MCQ**

Question ID : **264330136816**

Option 1 ID : **264330535960**

Option 2 ID : **264330535959**

Option 3 ID : **264330535961**

Option 4 ID : **264330535962**

Status : **Answered**

Chosen Option : **1**

Q.15 Find the part of the given sentence that has an error in it. If there is no error, choose 'No error'.

Companies will go after one other in their marketing campaigns.

Ans 1. after one other in

2. their marketing campaigns.

3. Companies will go

4. No error

Question Type : **MCQ**

Question ID : **264330136847**

Option 1 ID : **264330536080**

Option 2 ID : **264330536081**

Option 3 ID : **264330536079**

Option 4 ID : **264330536082**

Status : **Answered**

Chosen Option : **1**

Q.16 Improve the underlined part of the sentence. Choose 'No improvement' as an answer if the sentence is grammatically correct.

You'll have to brakes hard when you go down the hill.

- Ans**
- 1. brake hard
 - 2. No improvement
 - 3. brake hardly
 - 4. braked hard

Question Type : **MCQ**
Question ID : **264330135286**
Option 1 ID : **264330530059**
Option 2 ID : **264330530062**
Option 3 ID : **264330530061**
Option 4 ID : **264330530060**
Status : **Answered**
Chosen Option : **1**

Q.17 A sentence has been given with a blank to be filled with an appropriate option. Choose the correct alternative.
He was stable _____ they met.

- Ans**
- 1. hence
 - 2. when
 - 3. lest
 - 4. while

Question Type : **MCQ**
Question ID : **264330136801**
Option 1 ID : **264330535904**
Option 2 ID : **264330535905**
Option 3 ID : **264330535903**
Option 4 ID : **264330535906**
Status : **Answered**
Chosen Option : **2**

Q.18 Choose the word that means the same as the given word.

Ulterior

- Ans**
- 1. Ancient
 - 2. Prior
 - 3. Anterior
 - 4. Eventual

Question Type : **MCQ**
Question ID : **264330136786**
Option 1 ID : **264330535845**
Option 2 ID : **264330535843**
Option 3 ID : **264330535844**
Option 4 ID : **264330535846**
Status : **Answered**
Chosen Option : **2**

Q.19 Find the part of the given sentence that has an error in it. If there is no error, choose 'No error'.

Where can I find a good Chinese restaurant about here?

- Ans**
- 1. No error
 - 2. a good Chinese
 - 3. Where can I find
 - 4. restaurant about here?

Question Type : **MCQ**
Question ID : **264330135283**
Option 1 ID : **264330530050**
Option 2 ID : **264330530048**
Option 3 ID : **264330530047**
Option 4 ID : **264330530049**
Status : **Answered**
Chosen Option : **3**

Q.20 Select the appropriate antonym for the underlined word.

I need to spend some time fixing the disorder of my bookshelves.

- Ans**
- 1. Plague
 - 2. Condition
 - 3. Regulate
 - 4. Chaos

Question Type : **MCQ**
Question ID : **264330136814**
Option 1 ID : **264330535954**
Option 2 ID : **264330535952**
Option 3 ID : **264330535951**
Option 4 ID : **264330535953**
Status : **Answered**
Chosen Option : **3**

Comprehension:

In the following passage some of the words have been deleted. Read the passage carefully and select the correct answer for the given blank out of the four alternatives.

In Switzerland these glacial meltwaters are (1) _____ for hydropower. In fact, water falling on 93% of Switzerland ultimately passes (2) _____ at least one electric power plant before even (3) _____ the country. So one consequence is that melting glaciers help to (4) _____ for low rainfall in times of drought, filling reservoirs to supply the nation's (5) _____ supply.

SubQuestion No : 21

Q.21 Select the most appropriate option to fill in the blank No. 1.

- Ans
- ✓ 1. used
 - ✗ 2. chosen
 - ✗ 3. glued
 - ✗ 4. plotted

Question Type : **MCQ**

Question ID : **264330136804**

Option 1 ID : **264330535911**

Option 2 ID : **264330535912**

Option 3 ID : **264330535913**

Option 4 ID : **264330535914**

Status : **Answered**

Chosen Option : **1**

Comprehension:

In the following passage some of the words have been deleted. Read the passage carefully and select the correct answer for the given blank out of the four alternatives.

In Switzerland these glacial meltwaters are (1) _____ for hydropower. In fact, water falling on 93% of Switzerland ultimately passes (2) _____ at least one electric power plant before even (3) _____ the country. So one consequence is that melting glaciers help to (4) _____ for low rainfall in times of drought, filling reservoirs to supply the nation's (5) _____ supply.

SubQuestion No : 22

Q.22 Select the most appropriate option to fill in the blank No. 2.

- Ans
- ✓ 1. through
 - ✗ 2. beneath
 - ✗ 3. for
 - ✗ 4. with

Question Type : **MCQ**

Question ID : **264330136805**

Option 1 ID : **264330535916**

Option 2 ID : **264330535918**

Option 3 ID : **264330535915**

Option 4 ID : **264330535917**

Status : **Answered**

Chosen Option : **1**

Comprehension:

In the following passage some of the words have been deleted. Read the passage carefully and select the correct answer for the given blank out of the four alternatives.

In Switzerland these glacial meltwaters are (1) _____ for hydropower. In fact, water falling on 93% of Switzerland ultimately passes (2) _____ at least one electric power plant before even (3) _____ the country. So one consequence is that melting glaciers help to (4) _____ for low rainfall in times of drought, filling reservoirs to supply the nation's (5) _____ supply.

SubQuestion No : 23

Q.23 Select the most appropriate option to fill in the blank No. 3.

- Ans**
- 1. throwing
 - 2. sieving
 - 3. leaving
 - 4. catching

Question Type : **MCQ**

Question ID : **264330136806**

Option 1 ID : **264330535919**

Option 2 ID : **264330535921**

Option 3 ID : **264330535920**

Option 4 ID : **264330535922**

Status : **Answered**

Chosen Option : **4**

Comprehension:

In the following passage some of the words have been deleted. Read the passage carefully and select the correct answer for the given blank out of the four alternatives.

In Switzerland these glacial meltwaters are (1) _____ for hydropower. In fact, water falling on 93% of Switzerland ultimately passes (2) _____ at least one electric power plant before even (3) _____ the country. So one consequence is that melting glaciers help to (4) _____ for low rainfall in times of drought, filling reservoirs to supply the nation's (5) _____ supply.

SubQuestion No : 24

Q.24 Select the most appropriate option to fill in the blank No. 4.

- Ans**
- 1. compensate
 - 2. slate
 - 3. surrender
 - 4. stall

Question Type : **MCQ**

Question ID : **264330136807**

Option 1 ID : **264330535925**

Option 2 ID : **264330535924**

Option 3 ID : **264330535926**

Option 4 ID : **264330535923**

Status : **Answered**

Chosen Option : **4**

Comprehension:

In the following passage some of the words have been deleted. Read the passage carefully and select the correct answer for the given blank out of the four alternatives.

In Switzerland these glacial meltwaters are (1) _____ for hydropower. In fact, water falling on 93% of Switzerland ultimately passes (2) _____ at least one electric power plant before even (3) _____ the country. So one consequence is that melting glaciers help to (4) _____ for low rainfall in times of drought, filling reservoirs to supply the nation's (5) _____ supply.

SubQuestion No : 25

Q.25 Select the most appropriate option to fill in the blank No. 5.

- Ans**
- 1. stage
 - 2. cooking
 - 3. air
 - 4. energy

Question Type : **MCQ**

Question ID : **264330136808**

Option 1 ID : **264330535927**

Option 2 ID : **264330535929**

Option 3 ID : **264330535928**

Option 4 ID : **264330535930**

Status : **Answered**

Chosen Option : **4**

Multi Tasking Non Technical Staff and Havaladar CBIC and CBN Examination 2022

Roll Number	KD Job Updates
Candidate Name	KD Job Updates
Venue Name	Uma Digital Online Mock And Assessment Centre
Exam Date	03/05/2023
Exam Time	9:00 AM - 10:30 AM
Subject	MTS Non Tech Havaladar CBIC and CBN Examination 2022

Section : Numerical and Mathematical Ability

Q.1 यदि एक वर्ग का क्षेत्रफल 529 cm^2 है, तो इसके विकर्ण की लंबाई क्या है?

- Ans
- 1. 46 cm
 - 2. 23 cm
 - 3. $23\sqrt{2}$ cm
 - 4. $26\sqrt{3}$ cm

Question Type : MCQ

Question ID : 264330133645

Option 1 ID : 264330523606

Option 2 ID : 264330523605

Option 3 ID : 264330523603

Option 4 ID : 264330523604

Status : Answered

Chosen Option : 3

Q.2 P अकेले एक कार्य को 15 दिनों में पूरा कर सकता है और Q अकेले उसी कार्य को 12 दिनों में पूरा कर सकता है। वे एक साथ कार्य शुरू करते हैं लेकिन 3 दिन बाद P कार्य छोड़ देता है। शेष कार्य को पूरा करने में Q को कितना समय लगेगा?

- Ans
- 1. 7.8 दिन
 - 2. 8.5 दिन
 - 3. 6.6 दिन
 - 4. 7.2 दिन

Question Type : MCQ

Question ID : 264330137322

Option 1 ID : 264330537915

Option 2 ID : 264330537916

Option 3 ID : 264330537918

Option 4 ID : 264330537917

Status : Answered

Chosen Option : 3

Q.3 Rs. 11000 की धनराशि पर 11% वार्षिक दर पर 2 वर्ष के लिए चक्रवृद्धि ब्याज और साधारण ब्याज के बीच का अंतर ज्ञात कीजिए।

- Ans
- 1. Rs.155.6
 - 2. Rs.133.1
 - 3. Rs.144.4
 - 4. Rs.121.1

Question Type : MCQ
Question ID : 264330135381
Option 1 ID : 264330530434
Option 2 ID : 264330530432
Option 3 ID : 264330530433
Option 4 ID : 264330530431
Status : Answered
Chosen Option : 2

Q.4 $221 + 207 - 3$ of $44 + 7 \times 4$ का मान ज्ञात कीजिए।

- Ans
- 1. 324
 - 2. 355
 - 3. 320
 - 4. 333

Question Type : MCQ
Question ID : 264330135412
Option 1 ID : 264330530555
Option 2 ID : 264330530557
Option 3 ID : 264330530558
Option 4 ID : 264330530556
Status : Answered
Chosen Option : 1

Q.5 स्थिर जल में एक नाव की चाल 44 km/hr है और धारा की चाल 26 km/hr है। नाव की धारा के प्रतिकूल चाल ज्ञात कीजिए।

- Ans
- 1. 13 km/hr
 - 2. 18 km/hr
 - 3. 12 km/hr
 - 4. 14 km/hr

Question Type : MCQ
Question ID : 264330135426
Option 1 ID : 264330530612
Option 2 ID : 264330530611
Option 3 ID : 264330530614
Option 4 ID : 264330530613
Status : Answered
Chosen Option : 2

Q.6 एक आदमी एक रुपए में 21 आम खरीदता है। उसे एक रुपए में कितने आम बेचने होंगे जिससे उसे 30 प्रतिशत की हानि हो?

- Ans** 1. 30
 2. 40
 3. 25
 4. 35

Question Type : **MCQ**

Question ID : **264330138021**

Option 1 ID : **264330540694**

Option 2 ID : **264330540693**

Option 3 ID : **264330540691**

Option 4 ID : **264330540692**

Status : **Answered**

Chosen Option : **1**

Q.7 चीनी के मूल्य में 40% की वृद्धि होती है। चीनी की खपत में कितने प्रतिशत की कटौती करनी होगी ताकि चीनी पर कोई अतिरिक्त राशि खर्च न करनी पड़े?

- Ans** 1. 66.6%
 2. 33.5%
 3. 26.6%
 4. 28.5%

Question Type : **MCQ**

Question ID : **264330135374**

Option 1 ID : **264330530406**

Option 2 ID : **264330530403**

Option 3 ID : **264330530404**

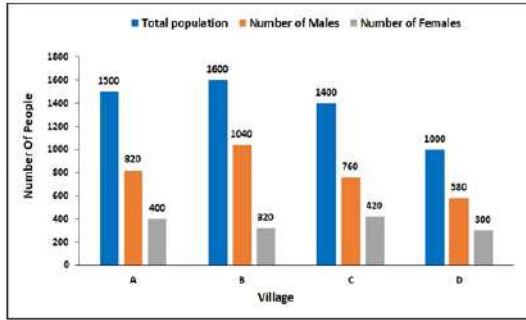
Option 4 ID : **264330530405**

Status : **Answered**

Chosen Option : **4**

Q.8 निम्न दंड आलेख में चार अलग-अलग गाँवों की जनसंख्या, उसमें पुरुषों की संख्या और महिलाओं की संख्या को दर्शाया गया है। उन चार गाँवों में बच्चों की कुल संख्या ज्ञात कीजिए।

कुल जनसंख्या = पुरुषों की संख्या + महिलाओं की संख्या + बच्चों की संख्या।



Total population - कुल जनसंख्या, Number of Males - पुरुषों की संख्या, Number of Females - महिलाओं की संख्या, Number of People - व्यक्तियों की संख्या, Village - गाँव

- Ans
- ✓ 1. 860
 - ✗ 2. 760
 - ✗ 3. 940
 - ✗ 4. 990

Question Type : MCQ

Question ID : 264330135430

Option 1 ID : 264330530628

Option 2 ID : 264330530629

Option 3 ID : 264330530627

Option 4 ID : 264330530630

Status : Answered

Chosen Option : 1

Q.9 साधारण ब्याज दर से 2 वर्ष में Rs.11500 की राशि Rs.12880 हो जाती है। ब्याज दर क्या है?

- Ans
- ✓ 1. 6% वार्षिक
 - ✗ 2. 8% वार्षिक
 - ✗ 3. 4% वार्षिक
 - ✗ 4. 10% वार्षिक

Question Type : MCQ

Question ID : 264330133683

Option 1 ID : 264330523756

Option 2 ID : 264330523755

Option 3 ID : 264330523757

Option 4 ID : 264330523758

Status : Answered

Chosen Option : 1

Q.10 यदि A : B बराबर 7 : 4 है और A - B = 9 है, तो A + B का मान क्या है?

Ans 1. 33

2. 23

3. 40

4. 21

Question Type : MCQ

Question ID : 264330135423

Option 1 ID : 264330530602

Option 2 ID : 264330530601

Option 3 ID : 264330530599

Option 4 ID : 264330530600

Status : Answered

Chosen Option : 1

Q.11 77 cm, 110 cm और 121 cm लंबाई वाली, धातु की तीन छड़ों को बराबर लंबाई के टुकड़ों में काटा जाना है। प्रत्येक भाग यथासंभव लंबा होना चाहिए। काटे जा सकने वाले टुकड़ों की अधिकतम संख्या कितनी है?

Ans 1. 28

2. 11

3. 21

4. 18

Question Type : MCQ

Question ID : 264330138091

Option 1 ID : 264330540974

Option 2 ID : 264330540972

Option 3 ID : 264330540971

Option 4 ID : 264330540973

Status : Answered

Chosen Option : 2

Q.12 छः भाइयों की औसत आयु 15 वर्ष है। यदि उनके पिता की आयु को भी शामिल कर लिया जाए, तो औसत में 7 वर्ष की वृद्धि हो जाती है। पिता की (वर्षों में) आयु ज्ञात कीजिए।

Ans 1. 44 वर्ष

2. 64 वर्ष

3. 60 वर्ष

4. 77 वर्ष

Question Type : MCQ

Question ID : 264330135415

Option 1 ID : 264330530570

Option 2 ID : 264330530569

Option 3 ID : 264330530567

Option 4 ID : 264330530568

Status : Answered

Chosen Option : 2

Q.13 एक व्यक्ति ने किसी एक वस्तु को 4% की हानि पर बेचा। यदि उसने इसे 1% के लाभ पर बेचा होता, तो उसे Rs.42.5 अधिक प्राप्त होते। 18% लाभ अर्जित करने के लिए, उस वस्तु का विक्रय मूल्य कितना होना चाहिए?

- Ans
- 1. Rs.900
 - 2. Rs.850
 - 3. Rs.1003
 - 4. Rs.756

Question Type : MCQ

Question ID : 264330135420

Option 1 ID : 264330530587

Option 2 ID : 264330530589

Option 3 ID : 264330530590

Option 4 ID : 264330530588

Status : Answered

Chosen Option : 3

Q.14 तालिका में 4 छात्रों के अंक दिए गए हैं। सभी अंक 100 में से प्राप्त किए गए हैं। सभी छः विषयों को मिलाकर रवीना ने कुल कितने प्रतिशत अंक प्राप्त किए हैं?

Student Name	Marks					
	Hindi	English	Social Science	Science	Mathematics	Computer
Kavita	84	82	74	90	94	90
Anuradha	62	74	70	60	80	55
Anchal	56	60	64	55	68	62
Ravina	80	78	84	70	85	70

Student Name = छात्र का नाम, Marks = अंक, Hindi = हिन्दी, English = अंग्रेज़ी, Social Science = सामाजिक विज्ञान,

Science = विज्ञान, Mathematics = गणित, Compute = कंप्यूटर

Kavita = कविता, Anuradha = अनुराधा, Anchal = अंचल, Ravina = रवीना

- Ans
- 1. 75%
 - 2. 74%
 - 3. 78%
 - 4. 71%

Question Type : MCQ

Question ID : 264330135125

Option 1 ID : 264330529435

Option 2 ID : 264330529436

Option 3 ID : 264330529438

Option 4 ID : 264330529437

Status : Answered

Chosen Option : 3

Q.15 $[0.004 \times \{5 \div (21 - 6) \times 3\} + 0.8]$ का मान निम्न में से _____ के बीच स्थित है।

- Ans
- ✓ 1. 0.5 और 0.9
 - ✗ 2. 1.0 और 1.4
 - ✗ 3. 1.5 और 1.9
 - ✗ 4. 0 और 0.4

Question Type : MCQ

Question ID : 264330135109

Option 1 ID : 264330529372

Option 2 ID : 264330529373

Option 3 ID : 264330529374

Option 4 ID : 264330529371

Status : Answered

Chosen Option : 1

Q.16 X और Y मिलकर किसी काम को 30 दिनों में पूरा कर सकते हैं। Z अकेले इसे 60 दिनों में कर सकता है। यदि वे साथ मिलकर काम करते हैं, तो वे कितने दिनों में काम को पूरा कर सकते हैं?

- Ans
- ✗ 1. 45 दिन
 - ✗ 2. 25 दिन
 - ✓ 3. 20 दिन
 - ✗ 4. 50 दिन

Question Type : MCQ

Question ID : 264330133640

Option 1 ID : 264330523583

Option 2 ID : 264330523585

Option 3 ID : 264330523586

Option 4 ID : 264330523584

Status : Answered

Chosen Option : 3

Q.17 एक समलंब की दो समांतर भुजाओं की लंबाई 15 मीटर और 20 मीटर है। यदि इसकी ऊँचाई 22 मीटर है, तो समलंब का क्षेत्रफल कितना है?

- Ans
- ✗ 1. 295 metre²
 - ✓ 2. 385 metre²
 - ✗ 3. 315 metre²
 - ✗ 4. 425 metre²

Question Type : MCQ

Question ID : 264330137337

Option 1 ID : 264330537976

Option 2 ID : 264330537975

Option 3 ID : 264330537977

Option 4 ID : 264330537978

Status : Answered

Chosen Option : 2

Q.18 यदि 750 को दो भागों में इस प्रकार बाँटा जाए कि एक संख्या दूसरी संख्या से 8 : 7 के अनुपात में हो, तो सबसे छोटी संख्या ज्ञात कीजिए।

- Ans 1. 350
 2. 90
 3. 120
 4. 135

Question Type : MCQ
Question ID : 264330135422
Option 1 ID : 264330530595
Option 2 ID : 264330530596
Option 3 ID : 264330530597
Option 4 ID : 264330530598
Status : Answered
Chosen Option : 1

Q.19 एक मैच में, 4 बल्लेबाजों द्वारा बनाए गए औसत रन 48 हैं। यदि तीन बल्लेबाजों द्वारा बनाए गए रन क्रमशः 58, 28 और 24 हैं, तो चौथे खिलाड़ी ने कितने रन बनाए?

- Ans 1. 82
 2. 94
 3. 68
 4. 72

Question Type : MCQ
Question ID : 264330137628
Option 1 ID : 264330539120
Option 2 ID : 264330539122
Option 3 ID : 264330539119
Option 4 ID : 264330539121
Status : Answered
Chosen Option : 1

Q.20 15% और 35% के क्रमागत बढ़े कितने एकल बढ़े के बराबर हैं?

- Ans 1. 42.28%
 2. 12.5%
 3. 44.75%
 4. 33.33%

Question Type : MCQ
Question ID : 264330135421
Option 1 ID : 264330530594
Option 2 ID : 264330530593
Option 3 ID : 264330530591
Option 4 ID : 264330530592
Status : Answered
Chosen Option : 3

Q.1 नीचे दिए गए प्रश्न में कुछ कथन दिए गए हैं और उन कथनों के आधार पर कुछ निष्कर्ष दिए गए हैं। आपको मानना है कि दिए गए कथन सत्य हैं चाहे वे सामान्यतः ज्ञात तथ्यों से अलग प्रतीत होते हों। सभी निष्कर्षों को पढ़िए और फिर निश्चय कीजिए कि दिए गए निष्कर्षों में से कौन-सा निष्कर्ष तार्किक रूप से दिए गए कथनों के अनुसार है।

कथन:

- I. कुछ पुरुष, कमजोर हैं।
- II. कोई कमजोर, मजबूत नहीं है।

निष्कर्ष:

- I. कुछ कमजोर, पुरुष हैं।
- II. सभी मजबूत, पुरुष हैं।
- III. कुछ मजबूत, कमजोर हैं।

Ans

- 1. सभी निष्कर्ष कथनों के अनुसार हैं
- 2. दोनों निष्कर्ष I और III कथनों के अनुसार हैं
- 3. केवल निष्कर्ष II कथनों के अनुसार है
- 4. केवल निष्कर्ष I कथनों के अनुसार है

Question Type : MCQ

Question ID : 264330135627

Option 1 ID : 264330531410

Option 2 ID : 264330531408

Option 3 ID : 264330531407

Option 4 ID : 264330531409

Status : Answered

Chosen Option : 4

Q.2 निम्नलिखित प्रश्न में दी गई श्रृंखला में लुप्त संख्या को चुनिए।

100, 105, 92, 113, 84, ?

Ans

- 1. 120
- 2. 122
- 3. 118
- 4. 121

Question Type : MCQ

Question ID : 264330135629

Option 1 ID : 264330531415

Option 2 ID : 264330531417

Option 3 ID : 264330531416

Option 4 ID : 264330531418

Status : Answered

Chosen Option : 4

Q.3 छः लड़कियाँ तान्या, पूजा, ऋचा, नेहा, निशा और अर्पिता एक गोलाकार मेज के चारों ओर केंद्र की ओर मुख करके बैठी हैं (परंतु जरूरी नहीं कि वे इसी क्रम में बैठी हों)। तान्या और पूजा एक-दूसरे के बगल में बैठी हैं। नेहा और निशा एक दूसरे के बगल में बैठी हैं। ऋचा और तान्या के बीच केवल दो लड़कियाँ बैठी हैं। पूजा, अर्पिता के ठीक बाईं ओर बैठी है। नेहा तान्या के बगल में नहीं बैठी है। तान्या के ठीक बाईं ओर कौन बैठा है?

- Ans**
- ✓ 1. निशा
 - ✗ 2. ऋचा
 - ✗ 3. अर्पिता
 - ✗ 4. पूजा

Question Type : **MCQ**
Question ID : **264330135624**
Option 1 ID : **264330531395**
Option 2 ID : **264330531398**
Option 3 ID : **264330531397**
Option 4 ID : **264330531396**
Status : **Answered**
Chosen Option : 1

Q.4 एक श्रृंखला दी गई है जिसमें एक पद लुप्त है। दिए गए विकल्पों में से उस सही विकल्प को चुनिए जो श्रृंखला को पूरा करेगा।

TP, VM, XJ, ZG, ?

- Ans**
- ✗ 1. CD
 - ✗ 2. BE
 - ✗ 3. CE
 - ✓ 4. BD

Question Type : **MCQ**
Question ID : **264330135615**
Option 1 ID : **264330531361**
Option 2 ID : **264330531359**
Option 3 ID : **264330531362**
Option 4 ID : **264330531360**
Status : **Answered**
Chosen Option : 4

Q.5 उस विकल्प को चुनिए जिसमें समुच्चय में दी गई संख्याएँ वही संबंध साझा करती हैं जो दिए गए समुच्चय में संख्याओं द्वारा साझा किया जाता है। (ध्यान दें: संख्याओं को उनके घटक अंकों में अलग-अलग किए बिना, पूर्ण संख्याओं पर संक्रियाएँ की जानी चाहिए। उदा. 13 - 13 पर संक्रियाएँ जैसे 13 को जोड़ना /घटाना /गुणा करना आदि किया जा सकता है। 13 को 1 और 3 में अलग-अलग करने की और फिर 1 और 3 पर गणितीय संक्रियाएँ करने की अनुमति नहीं है)

(12, 60, 5)

(14, 56, 4)

- Ans**
- ✓ 1. (10, 100, 10)
 - ✗ 2. (4, 20, 8)
 - ✗ 3. (20, 5, 7)
 - ✗ 4. (7, 70, 8)

Question Type : **MCQ**
Question ID : **264330135631**
Option 1 ID : **264330531423**
Option 2 ID : **264330531426**
Option 3 ID : **264330531424**
Option 4 ID : **264330531425**
Status : **Answered**
Chosen Option : 1

Q.6 निम्नलिखित प्रश्न में, दी गई श्रृंखला में लुप्त संख्या को चुनिए।

115, 117, 119, 121, 123, ?

- Ans
- 1. 124
 - 2. 127
 - 3. 131
 - 4. 125

Question Type : MCQ
Question ID : 264330135574
Option 1 ID : 264330531195
Option 2 ID : 264330531196
Option 3 ID : 264330531198
Option 4 ID : 264330531197
Status : Answered
Chosen Option : 4

Q.7 (::) के बाईं ओर दिए गए शब्द एक-दूसरे से किसी तर्क/नियम/संबंध से संबंधित हैं। उसी तर्क/नियम/संबंध के आधार पर दिए गए विकल्पों में से (::) के दाईं ओर लुप्त शब्द/शब्द युग्म को चुनिए।

कृतक : चूहा :: ?

- Ans
- 1. क्राँकरी : कप
 - 2. आदमी : स्तनपायी
 - 3. सरीसृप : हाथी
 - 4. कलम : स्टेशनरी

Question Type : MCQ
Question ID : 264330135618
Option 1 ID : 264330531372
Option 2 ID : 264330531374
Option 3 ID : 264330531373
Option 4 ID : 264330531371
Status : Answered
Chosen Option : 2

Q.8 पाँच कारों B, M, J, N और U के मूल्यों की तुलना की जाती है। J का मूल्य U, M और N के मूल्य से कम है। B का मूल्य सबसे कम है। कोई भी दो कारों का मूल्य एक समान नहीं है। U का मूल्य M के मूल्य से कम है। न तो U और न ही M का मूल्य सबसे अधिक है। कितनी कारों का मूल्य M के मूल्य से कम है?

- Ans
- 1. 1
 - 2. 4
 - 3. 2
 - 4. 3

Question Type : MCQ
Question ID : 264330135625
Option 1 ID : 264330531399
Option 2 ID : 264330531401
Option 3 ID : 264330531402
Option 4 ID : 264330531400
Status : Answered
Chosen Option : 4

Q.9 एक निश्चित कूट भाषा में, 'NAMED' को 'MBLFC' लिखा जाता है। उस भाषा में 'RAZOR' को कैसे लिखा जाएगा?

- Ans**
- 1. QBYPQ
 - 2. QYBPQ
 - 3. YQBPQ
 - 4. QBYPQ

Question Type : **MCQ**

Question ID : **264330137834**

Option 1 ID : **264330539944**

Option 2 ID : **264330539945**

Option 3 ID : **264330539946**

Option 4 ID : **264330539943**

Status : **Answered**

Chosen Option : **1**

Q.10 उस विकल्प को चुनिए जो पाँचवें पद से ठीक उसी प्रकार संबंधित है जिस प्रकार दूसरा पद पहले पद से संबंधित है और चौथा पद तीसरे पद से संबंधित है।

AR37 : DW44 :: PQ43 : SV50 :: GF31 : ?

- Ans**
- 1. JJ38
 - 2. KK38
 - 3. JK38
 - 4. KM38

Question Type : **MCQ**

Question ID : **264330135617**

Option 1 ID : **264330531370**

Option 2 ID : **264330531368**


Option 3 ID : **264330531367**

Option 4 ID : **264330531369**

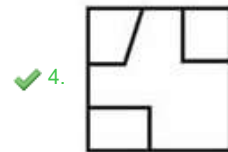
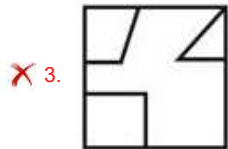
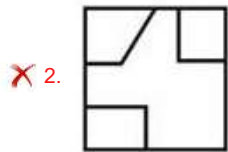
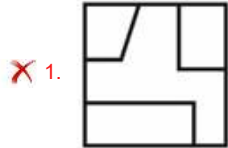
Status : **Answered**

Chosen Option : **3**

Q.11 कौन-सी उत्तर आकृति प्रश्न आकृति में पैटर्न को पूरा करेगी?



Ans



Question Type : MCQ

Question ID : 264330135636

Option 1 ID : 264330531446

Option 2 ID : 264330531444

Option 3 ID : 264330531445

Option 4 ID : 264330531443

Status : Answered

Chosen Option : 4

Q.12 दिए गए दो चिन्हों को आपस में बदलने पर, दिए गए समीकरण का मान क्या होगा?

× और + ; $24 \times 8 + 6 \div 3 - 18$

Ans ✓ 1. 22

✗ 2. 24

✗ 3. 20

✗ 4. 23

Question Type : MCQ

Question ID : 264330135632

Option 1 ID : 264330531429

Option 2 ID : 264330531428

Option 3 ID : 264330531427

Option 4 ID : 264330531430

Status : Answered

Chosen Option : 1

Q.13 एक निश्चित कूट भाषा में, 'FOLDER' को 'PCBJMD' लिखा जाता है। उस कूट भाषा में 'DOLLAR' को कैसे लिखा जाएगा?

- Ans
- 1. PZJJMB
 - 2. PYJJMB
 - 3. PYJJMC
 - 4. PYKKMC

Question Type : MCQ
Question ID : 264330137114
Option 1 ID : 264330537102
Option 2 ID : 264330537099
Option 3 ID : 264330537101
Option 4 ID : 264330537100
Status : Answered
Chosen Option : 2

Q.14 एक निश्चित कूट भाषा में, 'HUMP' को 'GTLO' लिखा जाता है और 'LIKE' को 'KHJD' लिखा जाता है। उस भाषा में 'PLAY' को कैसे लिखा जाएगा?

- Ans
- 1. QKZX
 - 2. OKZX
 - 3. OKYX
 - 4. OJZX

Question Type : MCQ
Question ID : 264330133565
Option 1 ID : 264330523286
Option 2 ID : 264330523283
Option 3 ID : 264330523284
Option 4 ID : 264330523285
Status : Answered
Chosen Option : 2

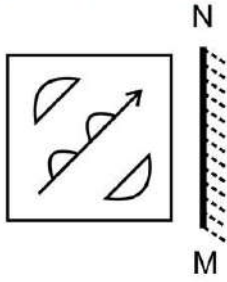
Q.15 उस विकल्प को चुनिए जो पाँचवीं संख्या से ठीक उसी प्रकार संबंधित है जिस प्रकार दूसरी संख्या पहली संख्या से संबंधित है और चौथी संख्या तीसरी संख्या से संबंधित है।

5 : 127 :: 6 : 218 :: 3 : ?

- Ans
- 1. 29
 - 2. 39
 - 3. 28
 - 4. 42


Question Type : MCQ
Question ID : 264330135576
Option 1 ID : 264330531203
Option 2 ID : 264330531206
Option 3 ID : 264330531204
Option 4 ID : 264330531205
Status : Answered
Chosen Option : 1

Q.16 दी गई आकृति के उस सही दर्पण प्रतिबिंब को चुनिए जो दर्पण MN को आकृति की दाहिनी ओर रखने पर बनेगा।



Ans

✗ 1.




✗ 2.



✗ 3.



✓ 4.



Question Type : MCQ

Question ID : 264330135018

Option 1 ID : 264330529007

Option 2 ID : 264330529009

Option 3 ID : 264330529008

Option 4 ID : 264330529010

Status : Answered

Chosen Option : 4

Q.17 छः लड़के राहुल, राम, रमेश, सोहन, साहिल और अनिल एक पंक्ति में उत्तर की ओर मुख करके बैठे हैं (परंतु जरूरी नहीं कि वे इसी क्रम में बैठें हों)। राहुल, अनिल के बाईं ओर चौथे स्थान पर बैठा है। राम, सोहन के दाईं ओर दूसरे स्थान पर बैठा है। रमेश, राम के दाईं ओर दूसरे स्थान पर बैठा है। अनिल पंक्ति के किसी भी अंतिम छोर पर नहीं बैठा है। राहुल के दाईं ओर दूसरे स्थान पर कौन बैठा है?

- Ans**
- 1. सोहन
 - 2. अनिल
 - 3. राम
 - 4. साहिल

Question Type : **MCQ**

Question ID : **264330135623**

Option 1 ID : **264330531391**

Option 2 ID : **264330531394**

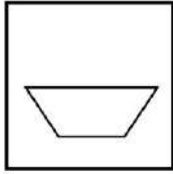
Option 3 ID : **264330531393**

Option 4 ID : **264330531392**

Status : **Answered**

Chosen Option : **4**

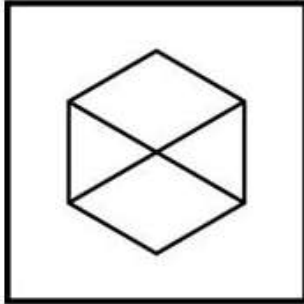
Q.18 उस विकल्प आकृति को चुनिए जिसमें दी गई आकृति (X) उसके भाग के रूप में निहित है (पूर्ण की अनुमति नहीं है)।



X

Ans


✗ 1.



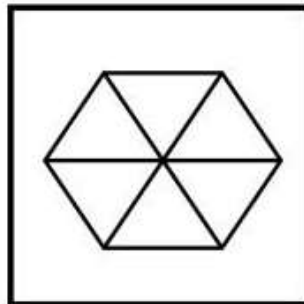
✗ 2.



✗ 3.



✓ 4.



Question Type : MCQ

Question ID : 264330135017

Option 1 ID : 264330529004

Option 2 ID : 264330529003

Option 3 ID : 264330529006

Option 4 ID : 264330529005

Status : Answered

Chosen Option : 4

Q.19 दिए गए समीकरण को सही करने के लिए किन दो चिन्हों को आपस में बदला जाना चाहिए?

$$63 = 56 + 88 \div 11 - 15$$

- Ans
- 1. + और \div
 - 2. + और =
 - 3. - और =
 - 4. \div और -

Question Type : MCQ

Question ID : 264330133402

Option 1 ID : 264330522641

Option 2 ID : 264330522639

Option 3 ID : 264330522640

Option 4 ID : 264330522642

Status : Answered

Chosen Option : 3

Q.20 नीचे दिए गए प्रश्न में कुछ कथन दिए गए हैं और उन कथनों के आधार पर कुछ निष्कर्ष दिए गए हैं। आपको मानना है कि दिए गए कथन सत्य हैं चाहे वे समान्यतः ज्ञात तथ्यों से अलग प्रतीत होते हों। सभी निष्कर्षों को पढ़िए और फिर निश्चय कीजिए कि दिए गए निष्कर्षों में से कौन-सा निष्कर्ष तार्किक रूप से दिए गए कथनों के अनुसार है।

कथन:

- I. कुछ B, A हैं।
- II. कोई C, B नहीं है।

निष्कर्ष:

- I. कोई C, A नहीं है।
- II. कोई B, C नहीं है।

- Ans
- 1. केवल निष्कर्ष II कथनों के अनुसार है
 - 2. केवल निष्कर्ष I कथनों के अनुसार है
 - 3. दोनों निष्कर्ष I और II कथनों के अनुसार हैं
 - 4. कोई भी निष्कर्ष कथनों के अनुसार नहीं है

Question Type : MCQ

Question ID : 264330135626

Option 1 ID : 264330531404

Option 2 ID : 264330531403

Option 3 ID : 264330531405

Option 4 ID : 264330531406

Status : Answered

Chosen Option : 1

Section : General Awareness

Q.1 अक्टूबर 2022 तक भारत में, _____ तक की वार्षिक आय वाले परिवार को दिया जाने वाला संपाश्विक-मुक्त ऋण (collateral-free loan) एक सूक्ष्म वित्तीय (microfinance) ऋण कहलाता है।

- Ans
- 1. Rs. 5 लाख
 - 2. Rs. 8 लाख
 - 3. Rs. 3 लाख
 - 4. Rs. 1 लाख

Question Type : MCQ

Question ID : 264330137060

Option 1 ID : 264330536883

Option 2 ID : 264330536886

Option 3 ID : 264330536884

Option 4 ID : 264330536885

Status : Not Answered

Chosen Option : --

Q.2 2011 की जनगणना के अनुसार, निम्न में से किस केंद्र शासित प्रदेश का लिंगानुपात सबसे कम है?

- Ans
- 1. दमन और दीव
 - 2. अंडमान और निकोबार द्वीप समूह
 - 3. लक्षद्वीप
 - 4. दादरा और नगर हवेली

Question Type : MCQ

Question ID : 264330137980

Option 1 ID : 264330540530

Option 2 ID : 264330540528

Option 3 ID : 264330540529

Option 4 ID : 264330540527

Status : Answered

Chosen Option : 1

Q.3 "ड्रीम्स फ्रॉम माई फादर (Dreams From My Father)" _____ की आत्मकथा है।

- Ans
- 1. ऐन फ्रैंक (Anne Frank)
 - 2. बेनिटो मुसोलिनी (Benito Mussolini)
 - 3. बेंजामिन फ्रैंकलिन (Benjamin Franklin)
 - 4. बराक ओबामा (Barack Obama)

Question Type : MCQ

Question ID : 264330137053

Option 1 ID : 264330536856

Option 2 ID : 264330536855

Option 3 ID : 264330536857

Option 4 ID : 264330536858

Status : Answered

Chosen Option : 3

Q.4 निम्नलिखित में से किस गीत की रचना प्रसिद्ध भारतीय संगीतकार राहुल देव बर्मन ने की थी?

Ans 1.

किसी की मुस्कराहटों पे हो निसार (Kisi Ki Muskurahaton Pe Ho Nisar)

2.

ये दोस्ती हम नहीं तोड़ेंगे (Yeh Dosti Hum Nahi Todenge)

3. ऐ दिल है मुश्किल (Ae Dil Hai Mushkil)

4. केसरिया (Kesariya)

Question Type : MCQ

Question ID : 264330135502

Option 1 ID : 264330530917

Option 2 ID : 264330530916

Option 3 ID : 264330530915

Option 4 ID : 264330530918

Status : Not Answered

Chosen Option : --

Q.5 बैटरी में किस प्रकार का ऊर्जा रूपांतरण होता है?

Ans 1. रासायनिक ऊर्जा का ध्वनि ऊर्जा में

2. रासायनिक ऊर्जा का विद्युत ऊर्जा में

3. रासायनिक ऊर्जा का प्रकाश ऊर्जा में

4. यांत्रिक ऊर्जा का रासायनिक ऊर्जा में

Question Type : MCQ

Question ID : 264330135439

Option 1 ID : 264330530664

Option 2 ID : 264330530666

Option 3 ID : 264330530663

Option 4 ID : 264330530665

Status : Answered

Chosen Option : 2

Q.6 पुधुमई पेन्न (Pudhumai Penn) योजना किस राज्य सरकार द्वारा शुरू की गई है?

Ans 1. महाराष्ट्र

2. आंध्रप्रदेश

3. केरल

4. तमिलनाडु

Question Type : MCQ

Question ID : 264330135484

Option 1 ID : 264330530846

Option 2 ID : 264330530843

Option 3 ID : 264330530844

Option 4 ID : 264330530845

Status : Answered

Chosen Option : 4

Q.7 रामप्पा मंदिर किस देवता को समर्पित है?

- Ans
- 1. भगवान इंद्र
 - 2. भगवान राम
 - 3. भगवान शिव
 - 4. भगवान विष्णु

Question Type : MCQ
Question ID : 264330133883
Option 1 ID : 264330524558
Option 2 ID : 264330524555
Option 3 ID : 264330524557
Option 4 ID : 264330524556
Status : Answered
Chosen Option : 4

Q.8 The President of India shall be elected by the members of an electoral college consisting of:

- I. The elected members of both Houses of Parliament
- II. The elected members of the Legislative Assemblies of the States.

- Ans
- 1. Only I
 - 2. Neither I nor II
 - 3. Both I and II
 - 4. Only II

Question Type : MCQ
Question ID : 264330135505
Option 1 ID : 264330530927
Option 2 ID : 264330530930
Option 3 ID : 264330530929
Option 4 ID : 264330530928
Status : Answered
Chosen Option : 3

Q.9 गयासुद्दीन तुगलक की मृत्यु के बाद गद्दी पर कौन बैठा?

- Ans
- 1. महमूद तुगलक
 - 2. मोहम्मद बिन तुगलक
 - 3. खुसरो खान
 - 4. मुबारक खान

Question Type : MCQ
Question ID : 264330135448
Option 1 ID : 264330530700
Option 2 ID : 264330530701
Option 3 ID : 264330530699
Option 4 ID : 264330530702
Status : Answered
Chosen Option : 2

Q.10 निम्नलिखित में से किस अनुच्छेद में, "सार्वजनिक क्षेत्र में रोजगार से संबंधित मामलों में अक्सर की समानता" का उल्लेख किया गया है?

- Ans
- 1. अनुच्छेद 14
 - 2. अनुच्छेद 17
 - 3. अनुच्छेद 16
 - 4. अनुच्छेद 15

Question Type : MCQ
Question ID : 264330135504
Option 1 ID : 264330530923
Option 2 ID : 264330530926
Option 3 ID : 264330530925
Option 4 ID : 264330530924
Status : Answered
Chosen Option : 3

Q.11 लियोनेल मेसी _____ खेल के एक प्रसिद्ध खिलाड़ी हैं।

- Ans
- 1. क्रिकेट
 - 2. बैडमिंटन
 - 3. बास्केटबॉल
 - 4. फुटबॉल

Question Type : MCQ
Question ID : 264330135506
Option 1 ID : 264330530932
Option 2 ID : 264330530934
Option 3 ID : 264330530933
Option 4 ID : 264330530931
Status : Answered
Chosen Option : 4

Q.12 रुक्मिणी देवी को इंडिया टुडे की '100 पीपल व्हो शेपेड इंडिया (100 People Who Shaped India)' की सूची में शामिल किया गया था। उन्हें वर्ष 1956 में 'पद्म भूषण' और 1967 में 'संगीत नाटक अकादमी फेलोशिप' से सम्मानित किया गया था। उनका संबंध निम्नलिखित में से किस नृत्य से था?

- Ans
- 1. कथकली
 - 2. मणिपुरी
 - 3. भरतनाट्यम
 - 4. ओडिसी

Question Type : MCQ
Question ID : 264330137055
Option 1 ID : 264330536865
Option 2 ID : 264330536863
Option 3 ID : 264330536866
Option 4 ID : 264330536864
Status : Answered
Chosen Option : 3

Q.13 निम्नलिखित में से कौन-सा विटामिन सी का सबसे बड़ा स्रोत है?

- Ans
- ✓ 1. नींबू
 - ✗ 2. खीरा
 - ✗ 3. आलू
 - ✗ 4. गाय का दूध

Question Type : MCQ
Question ID : 264330135441
Option 1 ID : 264330530672
Option 2 ID : 264330530673
Option 3 ID : 264330530674
Option 4 ID : 264330530671
Status : Answered
Chosen Option : 1

Q.14 मेगस्थनीज (Megasthenes) _____ के दरबार में एक यूनानी राजदूत था।

- Ans
- ✓ 1. चंद्रगुप्त मौर्य
 - ✗ 2. पुष्यमित्र शुंग
 - ✗ 3. अशोक
 - ✗ 4. हर्षवर्धन

Question Type : MCQ
Question ID : 264330134682
Option 1 ID : 264330527686
Option 2 ID : 264330527684
Option 3 ID : 264330527685
Option 4 ID : 264330527683
Status : Answered
Chosen Option : 1

Q.15 निम्नलिखित में से कौन-सा विद्रोह सन् 1855-56 के बीच हुआ था?

- Ans
- ✓ 1. संधाल विद्रोह
 - ✗ 2. कोल विद्रोह
 - ✗ 3. रामोसी विद्रोह
 - ✗ 4. पाइका विद्रोह

Question Type : MCQ
Question ID : 264330133904
Option 1 ID : 264330524642
Option 2 ID : 264330524640
Option 3 ID : 264330524641
Option 4 ID : 264330524639
Status : Not Answered
Chosen Option : --

Q.16 काई और लाइकेन किस प्रकार के वनों में पाए जाते हैं?

Ans 1. टुंड्रा वन

2. उष्णकटिबंधीय वर्षावन

3. शंकुधारी वन

4. समशीतोष्ण वन

Question Type : MCQ

Question ID : 264330135442

Option 1 ID : 264330530677

Option 2 ID : 264330530675

Option 3 ID : 264330530678

Option 4 ID : 264330530676

Status : Answered

Chosen Option : 4

Q.17 कोशिका के किस घटक में कोशिका का आनुवंशिक पदार्थ, DNA होता है?

Ans 1. कोशिका द्रव्य

2. केंद्रक

3. कोशिका भित्ति

4. कोशिका झिल्ली

Question Type : MCQ

Question ID : 264330135490

Option 1 ID : 264330530867

Option 2 ID : 264330530868

Option 3 ID : 264330530869

Option 4 ID : 264330530870

Status : Answered

Chosen Option : 2

Q.18 सिख सुधारकों द्वारा अपने धार्मिक स्थलों में धीरे-धीरे फैल रही सामाजिक करीतियों को हटा कर उन्हें शुद्ध करने के लिए _____ की शुरुआत की गई थी।

Ans 1. अकाली आंदोलन

2. नामधारी आंदोलन

3. निरंकारी आंदोलन

4. गदर आंदोलन

Question Type : MCQ

Question ID : 264330134685

Option 1 ID : 264330527695

Option 2 ID : 264330527696

Option 3 ID : 264330527697

Option 4 ID : 264330527698

Status : Answered

Chosen Option : 3

Q.19 बैसाखी का प्राचीन कृषि उत्सव किस महीने में मनाया जाता है?

- Ans
- 1. जनवरी
 - 2. अगस्त
 - 3. अप्रैल
 - 4. नवंबर

Question Type : MCQ
Question ID : 264330134672
Option 1 ID : 264330527644
Option 2 ID : 264330527646
Option 3 ID : 264330527643
Option 4 ID : 264330527645
Status : Answered
Chosen Option : 3

Q.20 दक्कन का पठार भारत में एक त्रिकोणीय भूभाग है जो _____ नदी के दक्षिण में स्थित है।

- Ans
- 1. नर्मदा
 - 2. गंगा
 - 3. तापी
 - 4. कृष्णा

Question Type : MCQ
Question ID : 264330135494
Option 1 ID : 264330530884
Option 2 ID : 264330530883
Option 3 ID : 264330530886
Option 4 ID : 264330530885
Status : Answered
Chosen Option : 1

Q.21 भारत में पहला उच्च न्यायालय सन् _____ में स्थापित किया गया था।

- Ans
- 1. 1860
 - 2. 1862
 - 3. 1857
 - 4. 1867

Question Type : MCQ
Question ID : 264330133892
Option 1 ID : 264330524592
Option 2 ID : 264330524593
Option 3 ID : 264330524591
Option 4 ID : 264330524594
Status : Not Answered
Chosen Option : --

Q.22 जनवरी 2022 में, भारत ने _____ के साथ USD 374.96 मिलियन के अपने सबसे बड़े रक्षा निर्यात ऑर्डर के सौदे पर हस्ताक्षर किए।

- Ans
- 1. ईरान
 - 2. संयुक्त अरब अमीरात
 - 3. इराक
 - 4. फिलीपींस

Question Type : MCQ
Question ID : 264330137045
Option 1 ID : 264330536824
Option 2 ID : 264330536823
Option 3 ID : 264330536825
Option 4 ID : 264330536826
Status : Answered
Chosen Option : 4

Q.23 राष्ट्रमंडल खेल 2022 में बजरंग पुनिया ने किस खेल में स्वर्ण पदक जीता?

- Ans
- 1. मुक्केबाज़ी
 - 2. भाला फेंक
 - 3. कुश्ती
 - 4. भारोत्तोलन

Question Type : MCQ
Question ID : 264330135457
Option 1 ID : 264330530735
Option 2 ID : 264330530738
Option 3 ID : 264330530737
Option 4 ID : 264330530736
Status : Answered
Chosen Option : 3

Q.24 1989 में राष्ट्रीय ग्रामीण रोजगार कार्यक्रम को _____ में शामिल कर लिया गया था।

- Ans
- 1. जवाहर रोजगार योजना
 - 2. इंदिरा आवास योजना
 - 3. ग्रामीण भूमिहीन रोजगार गारंटी कार्यक्रम
 - 4. रोजगार आश्वासन योजना

Question Type : MCQ
Question ID : 264330133993
Option 1 ID : 264330524998
Option 2 ID : 264330524995
Option 3 ID : 264330524997
Option 4 ID : 264330524996
Status : Answered
Chosen Option : 1

Q.25 सुग्गी (Suggi) भारत के _____ राज्य का एक प्रसिद्ध लोक नृत्य है।

- Ans
- 1. छत्तीसगढ़
 - 2. सिक्किम
 - 3. कर्नाटक
 - 4. पंजाब

Question Type : MCQ
Question ID : 264330135486
Option 1 ID : 264330530852
Option 2 ID : 264330530854
Option 3 ID : 264330530853
Option 4 ID : 264330530851
Status : Not Answered
Chosen Option : --

Section : English Language and Comprehension

Q.1 Choose the word that can substitute the given group of words.

That can be seen through

- Ans
- 1. Defatigable
 - 2. Transparent
 - 3. Opaque
 - 4. Reverent

Question Type : MCQ
Question ID : 264330135192
Option 1 ID : 264330529695
Option 2 ID : 264330529696
Option 3 ID : 264330529697
Option 4 ID : 264330529698
Status : Answered
Chosen Option : 2

Q.2 Find the part of the given sentence that has an error in it. If there is no error, choose 'No error'

I ate a few brown rice this morning.

- Ans
- 1. No error
 - 2. I ate a few
 - 3. brown rice
 - 4. this morning.

Question Type : MCQ
Question ID : 264330134320
Option 1 ID : 264330526274
Option 2 ID : 264330526271
Option 3 ID : 264330526272
Option 4 ID : 264330526273
Status : Answered
Chosen Option : 2

Q.3 In the following question, out of the given four alternatives, select the alternative which best expresses the meaning of the Idiom/Phrase.

To have an itching palm

- Ans**
- 1. To have no mercy
 - 2. To have an urge to slap
 - 3. To gain strength
 - 4. To be greedy for money

Question Type : **MCQ**

Question ID : **264330135277**

Option 1 ID : **264330530025**

Option 2 ID : **264330530026**

Option 3 ID : **264330530024**

Option 4 ID : **264330530023**

Status : **Answered**

Chosen Option : **2**

Q.4 Choose the word that is opposite in meaning to the given word.
Subtracted

- Ans**
- 1. Separated
 - 2. Adjunct
 - 3. Recap
 - 4. Annihilatory

Question Type : **MCQ**

Question ID : **264330134364**

Option 1 ID : **264330526439**

Option 2 ID : **264330526442**

Option 3 ID : **264330526441**

Option 4 ID : **264330526440**

Status : **Answered**

Chosen Option : **2**

Q.5 Identify the segment that contains a grammatical error. If there is no error, select 'No error'.

Now its referring to the same/ big lug who met his fate/ thanks to David's slingshot.

- Ans**
- 1. thanks to David's slingshot.
 - 2. big lug who met his fate
 - 3. Now its referring to the same
 - 4. No error

Question Type : **MCQ**

Question ID : **264330136509**

Option 1 ID : **264330534781**

Option 2 ID : **264330534780**

Option 3 ID : **264330534779**

Option 4 ID : **264330534782**

Status : **Answered**

Chosen Option : **2**

Q.6 Choose the word that means the same as the given word.

Explicit

- Ans
- 1. Nebulous
 - 2. Vogue
 - 3. Perfect
 - 4. Specific

Question Type : MCQ
Question ID : 264330134840
Option 1 ID : 264330528296
Option 2 ID : 264330528295
Option 3 ID : 264330528298
Option 4 ID : 264330528297
Status : Answered
Chosen Option : 3

Q.7 Select the most appropriate option to fill in the blank.

An excellent career _____ has now arisen with a leading recruitment agency.

- Ans
- 1. division
 - 2. opportunity
 - 3. preferability
 - 4. severance

Question Type : MCQ
Question ID : 264330135281
Option 1 ID : 264330530042
Option 2 ID : 264330530040
Option 3 ID : 264330530041
Option 4 ID : 264330530039
Status : Answered
Chosen Option : 2

Q.8 A sentence has been given with a blank to be filled with an appropriate option. Choose the correct alternative.

We are getting support from a _____ number of textile traders.

- Ans
- 1. larging
 - 2. largest
 - 3. largely
 - 4. large

Question Type : MCQ
Question ID : 264330135262
Option 1 ID : 264330529967
Option 2 ID : 264330529970
Option 3 ID : 264330529969
Option 4 ID : 264330529968
Status : Answered
Chosen Option : 4

Q.9 Choose the sentence with no spelling error.

- Ans 1. They completely rely on your accessory.
 2. They completely relie on your accessory.
 3. They completlly rely on your accessory.
 4. They completely rely on your accessory.

Question Type : MCQ
Question ID : 264330134820
Option 1 ID : 264330528222
Option 2 ID : 264330528219
Option 3 ID : 264330528221
Option 4 ID : 264330528220
Status : Answered
Chosen Option : 1

Q.10 Select the most appropriate option to fill in the blank.

Mr. Sharma opened the door of the stove to _____.

- Ans 1. pike
 2. peak
 3. piece
 4. peek

Question Type : MCQ
Question ID : 264330134821
Option 1 ID : 264330528226
Option 2 ID : 264330528225
Option 3 ID : 264330528223
Option 4 ID : 264330528224
Status : Answered
Chosen Option : 4

Q.11 Choose the incorrectly spelt word.

- Ans 1. Thunder
 2. Obsreve
 3. Club
 4. Bulb

Question Type : MCQ
Question ID : 264330135278
Option 1 ID : 264330530027
Option 2 ID : 264330530030
Option 3 ID : 264330530028
Option 4 ID : 264330530029
Status : Answered
Chosen Option : 2

Q.12 In the following question, out of the given four alternatives, select the alternative which best expresses the meaning of the Idiom/Phrase.

To get on one's nerves

- Ans**
- 1. To irritate or provoke one
 - 2. To become highly successful
 - 3. To get in someone's mind
 - 4. To unnecessary stretch the conversation

Question Type : **MCQ**
Question ID : **264330135198**
Option 1 ID : **264330529722**
Option 2 ID : **264330529720**
Option 3 ID : **264330529719**
Option 4 ID : **264330529721**
Status : **Answered**
Chosen Option : **1**

Q.13 Find the part of the given sentence that has an error in it. If there is no error, choose 'No error'.

Despite of technological innovations and powerful analytical tools, nothing is happening.

- Ans**
- 1. and powerful analytical tools,
 - 2. No error
 - 3. nothing is happening.
 - 4. Despite of technological innovations

Question Type : **MCQ**
Question ID : **264330135258**
Option 1 ID : **264330529952**
Option 2 ID : **264330529954**
Option 3 ID : **264330529953**
Option 4 ID : **264330529951**
Status : **Answered**
Chosen Option : **4**

Q.14 Select the appropriate antonym for the underlined word.

We should have warned you that they were coming.

- Ans**
- 1. waked
 - 2. predicted
 - 3. prepared
 - 4. imperiled

Question Type : **MCQ**
Question ID : **264330135275**
Option 1 ID : **264330530017**
Option 2 ID : **264330530018**
Option 3 ID : **264330530015**
Option 4 ID : **264330530016**
Status : **Answered**
Chosen Option : **4**

Q.15 Choose the word that can substitute the given group of words.

A house of shelter for a dog

- Ans 1. Kennel
 2. Den
 3. Barns
 4. Hangar

Question Type : MCQ
Question ID : 264330135271
Option 1 ID : 264330530000
Option 2 ID : 264330530002
Option 3 ID : 264330530001
Option 4 ID : 264330529999
Status : Answered
Chosen Option : 1

Q.16 Select the appropriate synonym for the underlined word.

My parents have been lying to me since I was a kid.

- Ans 1. misleading
 2. crying
 3. stopping
 4. framing

Question Type : MCQ
Question ID : 264330135272
Option 1 ID : 264330530004
Option 2 ID : 264330530005
Option 3 ID : 264330530006
Option 4 ID : 264330530003
Status : Answered
Chosen Option : 1

Q.17 Improve the underlined part of the sentence. Choose 'No improvement' as an answer if the sentence is grammatically correct.

The waiter giving the diners some complimentary mints.

- Ans 1. No improvement
 2. given the diners
 3. gave the diners
 4. give the diner

Question Type : MCQ
Question ID : 264330134506
Option 1 ID : 264330526990
Option 2 ID : 264330526989
Option 3 ID : 264330526988
Option 4 ID : 264330526987
Status : Answered
Chosen Option : 3

Q.18 Improve the underlined part of the sentence. Choose 'No improvement' as an answer if the sentence is grammatically correct.

Helen Keller was borne on 27 June 1880 in Tuscumbia.

- Ans**
- 1. was born on
 - 2. No improvement
 - 3. was birth on
 - 4. is borne in

Question Type : **MCQ**
Question ID : **264330135287**
Option 1 ID : **264330530065**
Option 2 ID : **264330530066**
Option 3 ID : **264330530064**
Option 4 ID : **264330530063**
Status : **Answered**
Chosen Option : **1**

Q.19 A sentence has been given with a blank to be filled with an appropriate option. Choose the correct alternative. A pair of Eurasian jays _____ over the forest yesterday.

- Ans**
- 1. did flew
 - 2. fly
 - 3. flew
 - 4. flown

Question Type : **MCQ**
Question ID : **264330134830**
Option 1 ID : **264330528262**
Option 2 ID : **264330528259**
Option 3 ID : **264330528260**
Option 4 ID : **264330528261**
Status : **Answered**
Chosen Option : **3**

Q.20 Select the most appropriate option to substitute the bracketed segment in the given sentence. If there is no need to substitute it, select 'no substitution required'.

The rodeo is (great way to unite soldier's skills and build) esprit de corps.

- Ans**
- 1. a great way to unite an soldier's skill and build
 - 2. great way to unite soldier's skills and building
 - 3. No substitution required
 - 4. a great way to unite soldiers' skills and build

Question Type : **MCQ**
Question ID : **264330136512**
Option 1 ID : **264330534793**
Option 2 ID : **264330534792**
Option 3 ID : **264330534794**
Option 4 ID : **264330534791**
Status : **Answered**
Chosen Option : **4**

Comprehension:

In the following passage some of the words have been deleted. Read the passage carefully and select the correct answer for the given blank out of the four alternatives.

The thought here is that because saliva is (1) _____ alkaline, stimulating it by chewing gum after eating (2) _____ help neutralize the acidity in your mouth and throat. (3) _____ a very small study from 2005 did (4) _____ some merit to this approach, the size of the study makes it difficult to (5) _____ any real conclusions.

SubQuestion No : 21**Q.21** Select the most appropriate option to fill in blank number 1.

- Ans 1. slighter
 2. slight
 3. slightly
 4. slightest

Question Type : **MCQ**Question ID : **264330134355**Option 1 ID : **264330526403**Option 2 ID : **264330526405**Option 3 ID : **264330526406**Option 4 ID : **264330526404**Status : **Answered**Chosen Option : **2****Comprehension:**

In the following passage some of the words have been deleted. Read the passage carefully and select the correct answer for the given blank out of the four alternatives.

The thought here is that because saliva is (1) _____ alkaline, stimulating it by chewing gum after eating (2) _____ help neutralize the acidity in your mouth and throat. (3) _____ a very small study from 2005 did (4) _____ some merit to this approach, the size of the study makes it difficult to (5) _____ any real conclusions.

SubQuestion No : 22**Q.22** Select the most appropriate option to fill in blank number 2.

- Ans 1. shall
 2. need to
 3. could
 4. may

Question Type : **MCQ**Question ID : **264330134356**Option 1 ID : **264330526410**Option 2 ID : **264330526407**Option 3 ID : **264330526409**Option 4 ID : **264330526408**Status : **Answered**Chosen Option : **2**

Comprehension:

In the following passage some of the words have been deleted. Read the passage carefully and select the correct answer for the given blank out of the four alternatives.

The thought here is that because saliva is (1) _____ alkaline, stimulating it by chewing gum after eating (2) _____ help neutralize the acidity in your mouth and throat. (3) _____ a very small study from 2005 did (4) _____ some merit to this approach, the size of the study makes it difficult to (5) _____ any real conclusions.

SubQuestion No : 23**Q.23 Select the most appropriate option to fill in blank number 3.****Ans** 1. While 2. So 3. Yet 4. AsQuestion Type : **MCQ**Question ID : **264330134357**Option 1 ID : **264330526413**Option 2 ID : **264330526414**Option 3 ID : **264330526411**Option 4 ID : **264330526412**Status : **Answered**Chosen Option : **1****Comprehension:**

In the following passage some of the words have been deleted. Read the passage carefully and select the correct answer for the given blank out of the four alternatives.

The thought here is that because saliva is (1) _____ alkaline, stimulating it by chewing gum after eating (2) _____ help neutralize the acidity in your mouth and throat. (3) _____ a very small study from 2005 did (4) _____ some merit to this approach, the size of the study makes it difficult to (5) _____ any real conclusions.

SubQuestion No : 24**Q.24 Select the most appropriate option to fill in blank number 4.****Ans** 1. founded 2. finds 3. find 4. foundQuestion Type : **MCQ**Question ID : **264330134358**Option 1 ID : **264330526416**Option 2 ID : **264330526415**Option 3 ID : **264330526418**Option 4 ID : **264330526417**Status : **Answered**Chosen Option : **3**

Comprehension:

In the following passage some of the words have been deleted. Read the passage carefully and select the correct answer for the given blank out of the four alternatives.

The thought here is that because saliva is (1) _____ alkaline, stimulating it by chewing gum after eating (2) _____ help neutralize the acidity in your mouth and throat. (3) _____ a very small study from 2005 did (4) _____ some merit to this approach, the size of the study makes it difficult to (5) _____ any real conclusions.

SubQuestion No : 25

Q.25 Select the most appropriate option to fill in blank number 5.

Ans 1. sell

2. draw

3. expel

4. repel

Question Type : **MCQ**

Question ID : **264330134359**

Option 1 ID : **264330526419**

Option 2 ID : **264330526422**

Option 3 ID : **264330526421**

Option 4 ID : **264330526420**

Status : **Answered**

Chosen Option : **3**

Join Qmaths on Social Media:



Telegram Channel

<https://t.me/qmaths>



Facebook Page

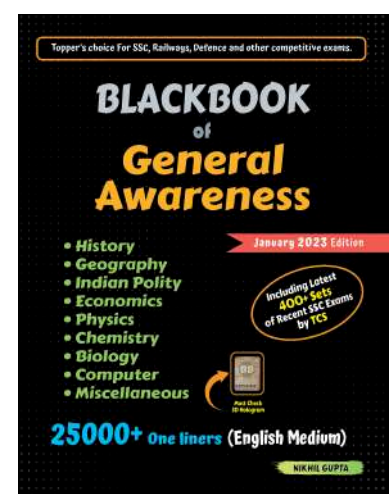

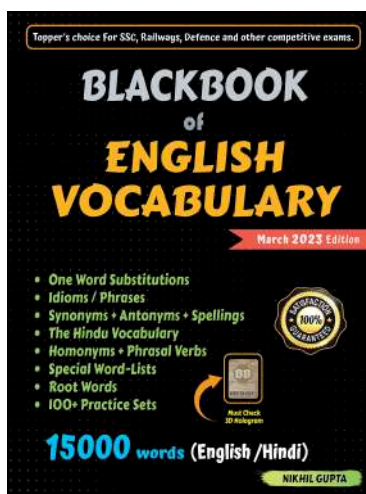
www.fb.com/Qmathsofficial/



YouTube Channel

www.youtube.com/QMaths_in/

Get the latest BlackBooks to Boost your Exam Preparation



Multi Tasking Non Technical Staff and Havaladar CBIC and CBN Examination 2022

Roll Number	KD Job Updates
Candidate Name	KD Job Updates
Venue Name	Maa Santoshi Computers Pvt. Ltd.
Exam Date	03/05/2023
Exam Time	12:00 PM - 2:00 PM
Subject	MTS Non Tech Havaladar CBIC and CBN Examination 2022

Section : Numerical and Mathematical Ability

Q.1

$\sqrt{[(13^2 - 8^2) \times 5 + 4]}$ का मान ज्ञात कीजिए:

- Ans
- 1. 22
 - 2. 26
 - 3. 24
 - 4. 23

Question Type : MCQ

Question ID : 264330135369

Option 1 ID : 264330530383

Option 2 ID : 264330530384

Option 3 ID : 264330530385

Option 4 ID : 264330530386

Status : Answered

Chosen Option : 4

Q.2

$\frac{14+7-12+15-17+2-3+17}{2+7-9+2-4+22}$ का मान क्या है?

- Ans
- 1. 23/20
 - 2. 17/20
 - 3. 19/20
 - 4. 33/20

Question Type : MCQ

Question ID : 264330135060

Option 1 ID : 264330529175

Option 2 ID : 264330529178

Option 3 ID : 264330529176

Option 4 ID : 264330529177

Status : Answered

Chosen Option : 1

Q.3 तृप्ति अकेले 4 दिनों में एक डिवाइडर का निर्माण कर सकती है जबकि राजन अकेले इसे 3 दिनों में बना सकता है। यदि वे इसे साथ मिलकर बनाते हैं और उन्हें Rs.14000 का कुल भुगतान किया जाता है, तो इसमें तृप्ति का हिस्सा कितना है?

- Ans**
- ✓ 1. Rs.6000
 - ✗ 2. Rs.8000
 - ✗ 3. Rs.5000
 - ✗ 4. Rs.7000

Question Type : **MCQ**
Question ID : **264330133686**
Option 1 ID : **264330523768**
Option 2 ID : **264330523769**
Option 3 ID : **264330523770**
Option 4 ID : **264330523767**
Status : **Answered**
Chosen Option : **1**

Q.4 अजय स्थिर जल में अपनी नाव को 11 km/hr की चाल से चला सकता है। यदि धारा की चाल 7 km/hr है, तो उसे धारा के अनुकूल 54 km की दूरी तय करने में कितना समय लगेगा?

- Ans**
- ✗ 1. 2 घंटे
 - ✓ 2. 3 घंटे
 - ✗ 3. 2.5 घंटे
 - ✗ 4. 4 घंटे

Question Type : **MCQ**
Question ID : **264330135382**
Option 1 ID : **264330530436**
Option 2 ID : **264330530435**
Option 3 ID : **264330530437**
Option 4 ID : **264330530438**
Status : **Answered**
Chosen Option : **2**

Q.5 एक आदमी एक रुपये में 13 पेन खरीदता है। 30 प्रतिशत का लाभ अर्जित करने के लिए उसे एक रुपये में कितने पेन बेचने चाहिए?

- Ans**
- ✓ 1. 10
 - ✗ 2. 15
 - ✗ 3. 8
 - ✗ 4. 5

Question Type : **MCQ**
Question ID : **264330137671**
Option 1 ID : **264330539291**
Option 2 ID : **264330539294**
Option 3 ID : **264330539293**
Option 4 ID : **264330539292**
Status : **Answered**
Chosen Option : **1**

Q.6 180 लीटर के एक मिश्रण में, दूध और पानी का अनुपात 5 : 1 है। यदि इस अनुपात को 3 : 2 करना हो, तो इसमें पानी की और कितनी मात्रा मिलानी होगी?

- Ans
- 1. 72 लीटर
 - 2. 70 लीटर
 - 3. 88 लीटर
 - 4. 66 लीटर

Question Type : MCQ
Question ID : 264330135068
Option 1 ID : 264330529208
Option 2 ID : 264330529210
Option 3 ID : 264330529207
Option 4 ID : 264330529209
Status : Answered
Chosen Option : 2

Q.7 एक किसान की भूमि एक समलंब के आकार की है जिसकी समानांतर भुजाएँ 6.32 गज (yards) और 7.68 गज हैं और समानांतर भुजाओं के बीच की दूरी 5.50 गज है। भूमि की जुताई की लागत Rs. 1200 प्रति वर्ग गज है। पूरी भूमि को जोतने के लिए कितनी राशि खर्च करनी होगी?

- Ans
- 1. Rs. 36600
 - 2. Rs. 46200
 - 3. Rs. 32500
 - 4. Rs. 55400

Question Type : MCQ
Question ID : 264330137617
Option 1 ID : 264330539078
Option 2 ID : 264330539076
Option 3 ID : 264330539075
Option 4 ID : 264330539077
Status : Answered
Chosen Option : 2

Q.8 एक मोबाइल का मूल्य Rs.30,000 है। पहले वर्ष के अंत में मोबाइल का मूल्य 12% घट जाता है और उसके अगले वर्ष के अंत में, यह 15% घट जाता है। 2 वर्ष बाद मोबाइल का मूल्य क्या होगा?

- Ans
- 1. Rs. 22,440
 - 2. Rs. 25,255
 - 3. Rs. 20,000
 - 4. Rs. 25,000

Question Type : MCQ
Question ID : 264330133766
Option 1 ID : 264330524087
Option 2 ID : 264330524090
Option 3 ID : 264330524088
Option 4 ID : 264330524089
Status : Answered
Chosen Option : 1

Q.9 माया ने 14% GST सहित Rs.7980 में एक टीवी खरीदा। GST के बिना टीवी का वास्तविक मूल्य क्या है?

- Ans
- 1. Rs.8880
 - 2. Rs.7000
 - 3. Rs.7900
 - 4. Rs.7080

Question Type : MCQ

Question ID : 264330135376

Option 1 ID : 264330530411

Option 2 ID : 264330530414

Option 3 ID : 264330530413

Option 4 ID : 264330530412

Status : Answered

Chosen Option : 2

Q.10 9 बक्सों का औसत भार 61 kg है। यदि 70 kg के औसत भार वाले तीन बक्सों को हटा दिया जाए, तो शेष बक्सों का नया औसत भार क्या होगा?

- Ans
- 1. 55.5 kg
 - 2. 56.5 kg
 - 3. 45.5 kg
 - 4. 54 kg

Question Type : MCQ

Question ID : 264330135371

Option 1 ID : 264330530392

Option 2 ID : 264330530393

Option 3 ID : 264330530391

Option 4 ID : 264330530394

Status : Answered

Chosen Option : 2

Q.11 यदि 3 और x का तृतीय समानुपाती 27 है और 2 और y का तृतीय समानुपाती 8 है, तो x:y का मान ज्ञात कीजिए।

- Ans
- 1. 4:5
 - 2. 3:7
 - 3. 9:4
 - 4. 7:9

Question Type : MCQ

Question ID : 264330135379

Option 1 ID : 264330530424

Option 2 ID : 264330530425

Option 3 ID : 264330530423

Option 4 ID : 264330530426

Status : Not Answered

Chosen Option : --

Q.12 निम्न तालिका में वर्ष 2018 से 2021 तक चार कंपनियों A, B, C और D द्वारा भर्ती किए गए उम्मीदवारों की संख्या को दर्शाया गया है। वर्ष 2019 में कंपनी B द्वारा भर्ती किए गए उम्मीदवारों की संख्या और वर्ष 2020 में कंपनी D द्वारा भर्ती किए गए उम्मीदवारों की संख्या का अनुपात ज्ञात कीजिए।

Years	A	B	C	D
2018	55	40	25	15
2019	60	75	50	25
2020	65	30	40	65
2021	45	35	70	35

years - वर्ष

- Ans
- 1. 13:12
 - 2. 15:13
 - 3. 12:11
 - 4. 15:11

Question Type : MCQ

Question ID : 264330135385

Option 1 ID : 264330530449

Option 2 ID : 264330530447

Option 3 ID : 264330530450

Option 4 ID : 264330530448

Status : Answered

Chosen Option : 2

Q.13 एक अर्धगोले का आयतन $486\pi \text{ cm}^3$ है। त्रिज्या ज्ञात कीजिए।

- Ans
- 1. 9 cm
 - 2. 7 cm
 - 3. 4 cm
 - 4. 8 cm

Question Type : MCQ

Question ID : 264330135388

Option 1 ID : 264330530461

Option 2 ID : 264330530460

Option 3 ID : 264330530459

Option 4 ID : 264330530462

Status : Answered

Chosen Option : 1

Q.14 एक वस्तु का अंकित मूल्य Rs. 400 है। इसे Rs. 300 में बेचा जाता है। यदि 15% की हानि होती है, तो वस्तु को क्रय मूल्य से कितने प्रतिशत अधिक मूल्य पर अंकित किया गया है?

- Ans
- 1. 35.25%
 - 2. 25.05%
 - 3. 28.24%
 - 4. 13.33%

Question Type : MCQ

Question ID : 264330135377

Option 1 ID : 264330530415

Option 2 ID : 264330530417

Option 3 ID : 264330530418

Option 4 ID : 264330530416

Status : Answered

Chosen Option : 4

Q.15 $4 \times \{44 + (84 + 18 \div 3 \times 3 - 40)\}$ का मान ज्ञात कीजिए:

- Ans 1. 331
 2. 424
 3. 330
 4. 250

Question Type : MCQ

Question ID : 264330135368

Option 1 ID : 264330530380

Option 2 ID : 264330530379

Option 3 ID : 264330530381

Option 4 ID : 264330530382

Status : Not Answered

Chosen Option : --

Q.16 एक कॉलेज के 19 लड़कों के प्राप्तांकों का औसत 48 है। यदि प्राप्तांकों में से अधिकतम अंक और न्यूनतम अंक हटा दिए जाए, तो औसत में 4 की कमी आ जाती है। प्राप्तांकों में से अधिकतम और न्यूनतम अंकों का औसत क्या है?

- Ans 1. 76
 2. 82
 3. 80
 4. 84

Question Type : MCQ

Question ID : 264330137669

Option 1 ID : 264330539284

Option 2 ID : 264330539286

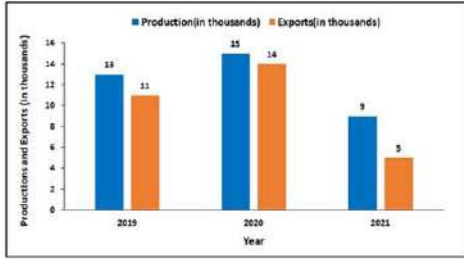
Option 3 ID : 264330539283

Option 4 ID : 264330539285

Status : Answered

Chosen Option : 2

Q.17 निम्न दंड आलेख में तीन वर्षों में एक कंपनी द्वारा किए गए कंप्यूटर के कुल उत्पादन और निर्यात (हजारों में) को दर्शाया गया है। दिए गए वर्षों में कंपनी द्वारा किया गया औसत निर्यात ज्ञात कीजिए।



Production (in thousands) - उत्पादन (हजारों में), export (in thousands) - निर्यात (हजारों में), Production and export (in thousands) - उत्पादन और निर्यात (हजारों में), year - वर्ष

- Ans
- ✗ 1. 15,000
 - ✗ 2. 16,000
 - ✓ 3. 10,000
 - ✗ 4. 12,000

Question Type : MCQ

Question ID : 264330135386

Option 1 ID : 264330530451

Option 2 ID : 264330530452

Option 3 ID : 264330530453

Option 4 ID : 264330530454

Status : Answered

Chosen Option : 3

Q.18 C1, C2 और C3 अकेले किसी कार्य को क्रमशः 10, 12 और 15 दिनों में कर सकते हैं। उन तीनों ने एक साथ कार्य शुरू किया लेकिन कार्य पूरा होने से 2 दिन पहले C2 ने कार्य छोड़ दिया। कार्य कितने दिनों में पूरा हुआ?

- Ans
- ✗ 1. (17/3) दिन
 - ✗ 2. (12/5) दिन
 - ✓ 3. (14/3) दिन
 - ✗ 4. (18/5) दिन

Question Type : MCQ

Question ID : 264330137604

Option 1 ID : 264330539024

Option 2 ID : 264330539025

Option 3 ID : 264330539026

Option 4 ID : 264330539023

Status : Answered

Chosen Option : 3

Q.19 यदि Rs. 4200 को A, B और C के बीच इस प्रकार बाँटा जाता है कि $A : B = 2 : 3$ और $B : C = 6 : 5$ है, तो B का हिस्सा ज्ञात कीजिए।

- Ans**
- 1. Rs.1770
 - 2. Rs.1680
 - 3. Rs.1800
 - 4. Rs.1550

Question Type : **MCQ**
Question ID : **264330135378**
Option 1 ID : **264330530419**
Option 2 ID : **264330530420**
Option 3 ID : **264330530422**
Option 4 ID : **264330530421**
Status : **Answered**
Chosen Option : **2**

Q.20 Rs. 64000 की धनराशि पर 5% वार्षिक दर पर 2 वर्षों के लिए वार्षिक रूप से संयोजित चक्रवृद्धि ब्याज कितना होगा?

- Ans**
- 1. Rs. 4580
 - 2. Rs. 6560
 - 3. Rs. 8550
 - 4. Rs. 3050

Question Type : **MCQ**
Question ID : **264330138447**
Option 1 ID : **264330542398**
Option 2 ID : **264330542395**
Option 3 ID : **264330542397**
Option 4 ID : **264330542396**
Status : **Answered**
Chosen Option : **2**

Section : Reasoning Ability and Problem Solving

Q.1 उस विकल्प को चुनिए जिसमें समुच्चय की संख्याएँ वही संबंध साझा करती हैं जो दिए गए समुच्चय में संख्याओं द्वारा साझा किया जाता है। (ध्यान दें: संख्याओं को उनके घटक अंकों में अलग-अलग किए बिना, पूर्ण संख्याओं पर संक्रियाएँ की जानी चाहिए। उदा. 13 - 13 पर संक्रियाएँ जैसे 13 को जोड़ना /घटाना /गुणा करना आदि किया जा सकता है। 13 को 1 और 3 में अलग-अलग करने की और फिर 1 और 3 पर गणितीय संक्रियाएँ करने की अनुमति नहीं है)

(100, 150, 125)

(500, 400, 450)

- Ans**
- 1. (200, 400, 300)
 - 2. (180, 140, 260)
 - 3. (14, 16, 28)
 - 4. (120, 100, 130)

Question Type : **MCQ**
Question ID : **264330135577**
Option 1 ID : **264330531209**
Option 2 ID : **264330531210**
Option 3 ID : **264330531208**
Option 4 ID : **264330531207**
Status : **Not Answered**
Chosen Option : **--**

Q.2 उस विकल्प को चुनिए जो पाँचवें पद से ठीक उसी प्रकार संबंधित है जिस प्रकार दूसरा पद पहले पद से संबंधित है और चौथा पद तीसरे पद से संबंधित है।

K4N : P9N :: A5Z : B11D :: P6R : ?

- Ans
- ✓ 1. T13S
 - ✗ 2. R13T
 - ✗ 3. R13S
 - ✗ 4. S13T

Question Type : MCQ
Question ID : 264330135564
Option 1 ID : 264330531156
Option 2 ID : 264330531158
Option 3 ID : 264330531157
Option 4 ID : 264330531155
Status : Not Answered
Chosen Option : --

Q.3 निम्नलिखित प्रश्न में, दी गई श्रृंखला में लुप्त संख्या को चुनिए।

10, 9, 17, -10, 54, ?

- Ans
- ✗ 1. -82
 - ✓ 2. -71
 - ✗ 3. -67
 - ✗ 4. -103

Question Type : MCQ
Question ID : 264330135575
Option 1 ID : 264330531199
Option 2 ID : 264330531201
Option 3 ID : 264330531202
Option 4 ID : 264330531200
Status : Not Answered
Chosen Option : --

Q.4 Select the option that is related to the third word in the same way as the second word is related to the first word.
Garage : Bike :: Aquarium : ?

- Ans
- ✓ 1. Fish
 - ✗ 2. Rat
 - ✗ 3. Rabbit
 - ✗ 4. Sparrow

Question Type : MCQ
Question ID : 264330134955
Option 1 ID : 264330528757
Option 2 ID : 264330528755
Option 3 ID : 264330528756
Option 4 ID : 264330528758
Status : Answered
Chosen Option : 1

Q.5 एक निश्चित कूट भाषा में, 'CORRECT' को '3Q1818G320' लिखा जाता है। उस भाषा में 'WRONG' को कैसे लिखा जाएगा?

- Ans 1. 2318Q147
 2. 2218P147
 3. 2138Q741
 4. 2314Q147

Question Type : MCQ

Question ID : 264330133530

Option 1 ID : 264330523151

Option 2 ID : 264330523153

Option 3 ID : 264330523154

Option 4 ID : 264330523152

Status : Answered

Chosen Option : 1

Q.6 सात कर्मचारी राहुल, राम, रमेश, सोहन, साहिल, अनिल और सोनू एक वृत्ताकार मेज के चारों ओर केंद्र की ओर मुख करके बैठे हैं (परंतु जरूरी नहीं कि वे इसी क्रम में बैठें हों)। अनिल, राम और सोनू दोनों का निकटतम पड़ोसी है। राम, साहिल के दाईं ओर से दूसरे स्थान पर है। राहुल, साहिल और सोहन दोनों का निकटतम पड़ोसी है। राहुल के बाईं ओर से दूसरे स्थान पर कौन है?

- Ans 1. रमेश
 2. राम
 3. अनिल
 4. सोनू

Question Type : MCQ

Question ID : 264330135570

Option 1 ID : 264330531179

Option 2 ID : 264330531180

Option 3 ID : 264330531182

Option 4 ID : 264330531181

Status : Answered

Chosen Option : 1

Q.7 उस विकल्प को चुनिए जो चौथे पद से ठीक उसी प्रकार संबंधित है जिस प्रकार पहला पद दूसरे पद से संबंधित है और पाँचवाँ पद छठवें पद से संबंधित है।

FAR : HDT :: ? : ODD :: PQR : RTT

- Ans 1. NBB
 2. NAB
 3. MAB
 4. MAC

Question Type : MCQ

Question ID : 264330135563

Option 1 ID : 264330531153

Option 2 ID : 264330531151

Option 3 ID : 264330531154

Option 4 ID : 264330531152

Status : Answered

Chosen Option : 3

Q.8 छः लड़कियाँ मानसी, श्वेता, मोनिका, पायल, आरती और काजल एक वृत्ताकार मेज के चारों ओर केंद्र की ओर मुख करके बैठी हैं (परंतु जरूरी नहीं कि वे इसी क्रम में बैठी हों)। काजल, मानसी के ठीक बाईं ओर है। श्वेता, मानसी के बाईं ओर से तीसरे स्थान पर है। पायल, काजल के दाईं ओर से दूसरे स्थान पर है। मोनिका, मानसी के बाईं ओर से दूसरे स्थान पर नहीं है। आरती की दाईं ओर से चौथे स्थान पर कौन है?

- Ans**
- 1. काजल
 - 2. मोनिका
 - 3. श्वेता
 - 4. पायल

Question Type : **MCQ**
Question ID : **264330135569**
Option 1 ID : **264330531178**
Option 2 ID : **264330531176**
Option 3 ID : **264330531175**
Option 4 ID : **264330531177**
Status : **Answered**
Chosen Option : **2**

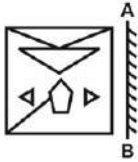
Q.9 एक श्रृंखला दी गई है जिसमें एक पद लुप्त है। दिए गए विकल्पों में से उस सही विकल्प को चुनिए जो श्रृंखला को पूरा करेगा।

PV, RZ, TD, ?, XL



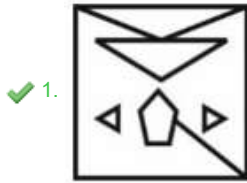
- Ans**
- 1. VG
 - 2. UG
 - 3. VH
 - 4. UH

Question Type : **MCQ**
Question ID : **264330135561**
Option 1 ID : **264330531143**
Option 2 ID : **264330531144**
Option 3 ID : **264330531146**
Option 4 ID : **264330531145**
Status : **Answered**
Chosen Option : **3**

Q.10 यदि एक दर्पण को रेखा AB पर रखा जाए, तो दिए गए विकल्पों में से कौन-सी आकृति प्रश्न आकृति का सही प्रतिबिम्ब होगी?



Ans



Question Type : MCQ

Question ID : 264330135581

Option 1 ID : 264330531224

Option 2 ID : 264330531226

Option 3 ID : 264330531223

Option 4 ID : 264330531225

Status : Answered

Chosen Option : 1

Q.11 किसी एक खास कूट भाषा में, 'ZEBRA' को 'YDAQZ' लिखा जाता है। उस कूट भाषा में 'HORSE' को कैसे लिखा जाएगा?

Ans ✓ 1. GNQRD

✗ 2. GNRQA

✗ 3. GNQRS

✗ 4. GQDRE

Question Type : MCQ

Question ID : 264330133325

Option 1 ID : 264330522337

Option 2 ID : 264330522335

Option 3 ID : 264330522338

Option 4 ID : 264330522336

Status : Answered

Chosen Option : 1

Q.12 निम्नलिखित प्रश्न में, दी गई श्रृंखला में लुप्त संख्या को चुनिए ।

44, 20, -4, ?, -52, -76

Ans 1. -10

2. -28

3. -20

4. 0

Question Type : MCQ

Question ID : 264330138552

Option 1 ID : 264330542817

Option 2 ID : 264330542816

Option 3 ID : 264330542815

Option 4 ID : 264330542818

Status : Answered

Chosen Option : 2

Q.13 एक निश्चित कूट भाषा में, 'JUNO' को '1356' लिखा जाता है और 'HATE' को '8125' लिखा जाता है। उस भाषा में 'TOWER' को कैसे लिखा जाएगा?

Ans 1. 26559

2. 25659

3. 26569

4. 26659

Question Type : MCQ

Question ID : 264330134961

Option 1 ID : 264330528781

Option 2 ID : 264330528779

Option 3 ID : 264330528780

Option 4 ID : 264330528782

Status : Answered

Chosen Option : 1

Q.14 निम्नलिखित प्रश्न में कुछ कथन दिए गए हैं और उन कथनों के आधार पर कुछ निष्कर्ष दिए गए हैं। आपको यह मानना है कि दिए गए कथन सत्य हैं चाहे वे समान्यतः ज्ञात तथ्यों से अलग प्रतीत होते हों। सभी निष्कर्षों को पढ़िए और फिर निश्चय कीजिए कि दिए गए निष्कर्षों में से कौन-सा निष्कर्ष तार्किक रूप से दिए गए कथनों के अनुसार है।

कथन:

- I. कोई चूहा, गाय नहीं है।
- II. कुछ जानवर, चूहे हैं।

निष्कर्ष:

- I. कुछ जानवर, गाय हैं।
- II. कुछ गाय, चूहे नहीं हैं।
- III. सभी चूहे, जानवर हैं।

- Ans
- 1. दोनों निष्कर्ष I और II कथनों के अनुसार हैं
 - 2. केवल निष्कर्ष II कथनों के अनुसार है
 - 3. कोई भी निष्कर्ष कथनों के अनुसार नहीं है
 - 4. दोनों निष्कर्ष I और III कथनों के अनुसार हैं

Question Type : MCQ

Question ID : 264330135573

Option 1 ID : 264330531193

Option 2 ID : 264330531192

Option 3 ID : 264330531194

Option 4 ID : 264330531191

Status : Answered

Chosen Option : 1

Q.15 किन दो संख्याओं को आपस में बदलने पर, दिए गए समीकरण का मान '5' होगा?

$$7 - 3 \div 9 \times 2 + 4$$

- Ans
- 1. 7 और 4
 - 2. 3 और 9
 - 3. 4 और 2
 - 4. 2 और 9

Question Type : MCQ

Question ID : 264330135578

Option 1 ID : 264330531211

Option 2 ID : 264330531214

Option 3 ID : 264330531213

Option 4 ID : 264330531212

Status : Answered

Chosen Option : 2

Q.16 निम्नलिखित प्रश्न में कुछ कथन दिए गए हैं और उन कथनों के आधार पर कुछ निष्कर्ष दिए गए हैं। आपको यह मानना है कि दिए गए कथन सत्य हैं चाहे वे सामान्यतः ज्ञात तथ्यों से अलग प्रतीत होते हों। सभी निष्कर्षों को पढ़िए और फिर निश्चय कीजिए कि दिए गए निष्कर्षों में से कौन-सा निष्कर्ष तार्किक रूप से दिए गए कथनों के अनुसार है।

कथन:

- I. सभी L, P हैं।
- II. सभी P, V हैं।

निष्कर्ष:

- I. कुछ L, V हैं।
- II. कोई V, L नहीं है।

Ans

- ✓ 1. केवल निष्कर्ष I कथनों के अनुसार है
- ✗ 2. कोई भी निष्कर्ष कथनों के अनुसार नहीं है
- ✗ 3. दोनों निष्कर्ष I और II कथनों के अनुसार हैं
- ✗ 4. केवल निष्कर्ष II कथनों के अनुसार है

Question Type : **MCQ**

Question ID : **264330135572**

Option 1 ID : **264330531187**

Option 2 ID : **264330531190**

Option 3 ID : **264330531189**

Option 4 ID : **264330531188**

Status : **Answered**

Chosen Option : **1**

Q.17 उस विकल्प आकृति को चुनिए जिसमें दी गई आकृति निहित है। (घूर्णन की अनुमति नहीं है)



Ans

✓ 1.



✗ 2.



✗ 3.



✗ 4.



Question Type : MCQ

Question ID : 264330135580

Option 1 ID : 264330531219

Option 2 ID : 264330531222

Option 3 ID : 264330531220

Option 4 ID : 264330531221

Status : Answered

Chosen Option : 1

Q.18 एक निश्चित कूट भाषा में, 'DOGS' को '5279' लिखा जाता है, 'DRAW' को '1032' लिखा जाता है, 'DOWN' को '8205' लिखा जाता है। उस कूट भाषा में 'S' को कैसे लिखा जाएगा?

Ans ✗ 1. 5

✗ 2. 0

✗ 3. 2

✓ 4. 7

Question Type : MCQ

Question ID : 264330138608

Option 1 ID : 264330543039

Option 2 ID : 264330543041

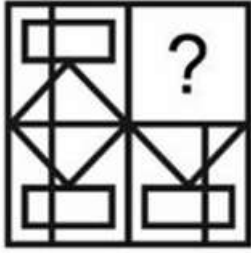
Option 3 ID : 264330543040

Option 4 ID : 264330543042

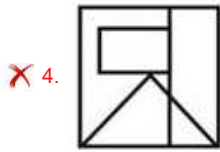
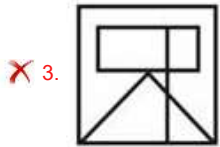
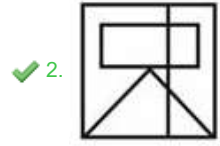
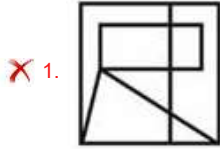
Status : Answered

Chosen Option : 4

Q.19 कौन-सी उत्तर आकृति प्रश्न आकृति में दिए गए पैटर्न को पूरा करेगी?



Ans



Question Type : MCQ

Question ID : 264330135582

Option 1 ID : 264330531229

Option 2 ID : 264330531227

Option 3 ID : 264330531228

Option 4 ID : 264330531230

Status : Answered

Chosen Option : 2

Q.20 पाँच पार्किंग क्षेत्रों S1, S2, S3, S4 और S5 में खड़े ट्रकों की संख्या की तुलना की जाती है। S3 में खड़े ट्रकों की संख्या केवल S2 से अधिक है। S5 में खड़े ट्रकों की संख्या केवल S1 से कम है। यदि पार्किंग क्षेत्र S3 में खड़े ट्रकों की संख्या 1200 है, तो पार्किंग क्षेत्र S1 में कितने ट्रक खड़े किए जा सकते हैं?

Ans ✗ 1. 1197

✗ 2. 1154

✗ 3. 1184

✓ 4. 1346

Question Type : MCQ

Question ID : 264330135571

Option 1 ID : 264330531184

Option 2 ID : 264330531186

Option 3 ID : 264330531185

Option 4 ID : 264330531183

Status : Answered

Chosen Option : 4

Q.1 निम्नलिखित में से किस सामाजिक धार्मिक समुदाय की स्थापना राजा राम मोहन राय ने की थी?

- Ans
- 1. आर्य समाज
 - 2. प्रार्थना समाज
 - 3. ब्रह्म समाज
 - 4. अकाली दल

Question Type : MCQ
Question ID : 264330133946
Option 1 ID : 264330524807
Option 2 ID : 264330524810
Option 3 ID : 264330524808
Option 4 ID : 264330524809
Status : Answered
Chosen Option : 3

Q.2 दिल्ली सल्तनत के दौरान, "उलेमा (Ulema)" शब्द का संबंध _____ से था।

- Ans
- 1. ग्राम राजस्व अधिकारी
 - 2. प्रमुख कमांडर
 - 3. डाक अधिकारी
 - 4. विद्वान धर्मशास्त्री और न्याय-शास्त्री

Question Type : MCQ
Question ID : 264330138343
Option 1 ID : 264330541979
Option 2 ID : 264330541981
Option 3 ID : 264330541980
Option 4 ID : 264330541982
Status : Answered
Chosen Option : 4

Q.3 2008-2010 की मंदी के कारण हुई बेरोजगारी निम्न में से किस प्रकार की बेरोजगारी का उदाहरण है?

- Ans
- 1. शास्त्रीय
 - 2. संरचनात्मक
 - 3. चक्रीय
 - 4. प्रतिरोधात्मक

Question Type : MCQ
Question ID : 264330134018
Option 1 ID : 264330525097
Option 2 ID : 264330525095
Option 3 ID : 264330525096
Option 4 ID : 264330525098
Status : Answered
Chosen Option : 3

Q.4 कौन-सा पादप ऊतक मृदा से जल और खनिज पोषकों को तनों और पत्तियों तक पहुँचाने के लिए उत्तरदायी है?

- Ans
- 1. पैरेन्काइमा
 - 2. कोलेन्काइमा
 - 3. फ्लोएम
 - 4. जाइलम

Question Type : MCQ

Question ID : 264330135440

Option 1 ID : 264330530668

Option 2 ID : 264330530670

Option 3 ID : 264330530669

Option 4 ID : 264330530667

Status : Answered

Chosen Option : 4

Q.5 किसी अम्ल और किसी क्षारक के बीच होने वाली अभिक्रिया _____ कहलाती है।

- Ans
- 1. ऑक्सीकरण अभिक्रिया (Oxidation reaction)
 - 2. संघनन अभिक्रिया (Condensation reaction)
 - 3. उदासीनीकरण अभिक्रिया (Neutralisation reaction)
 - 4. उप-परिवर्तन अभिक्रिया (Sub-alteration reaction)

Question Type : MCQ

Question ID : 264330138337

Option 1 ID : 264330541956

Option 2 ID : 264330541958

Option 3 ID : 264330541955

Option 4 ID : 264330541957

Status : Answered

Chosen Option : 3

Q.6 कर्नाटक के गुलबर्गा में स्थित बहमनी स्मारक, वास्तुकला की _____ शैली को दर्शाते हैं।

- Ans
- 1. मामलुक
 - 2. दक्कन
 - 3. नागर
 - 4. सिख

Question Type : MCQ

Question ID : 264330133935

Option 1 ID : 264330524763

Option 2 ID : 264330524765

Option 3 ID : 264330524764

Option 4 ID : 264330524766

Status : Answered

Chosen Option : 2

Q.7 'ए लाइफ ऑफ द जीनियस: द मैन व्हो न्यू इनफिनिटी (A Life of the Genius: The Man Who Knew Infinity)' भारतीय गणितज्ञ _____ की जीवनी है।

- Ans
- ✓ 1. श्रीनिवास रामानुजन
 - ✗ 2. आर्यभट्ट
 - ✗ 3. नीना गुप्ता
 - ✗ 4. आचार्य पिंगला

Question Type : MCQ
Question ID : 264330133665
Option 1 ID : 264330523683
Option 2 ID : 264330523684
Option 3 ID : 264330523685
Option 4 ID : 264330523686
Status : Answered
Chosen Option : 1

Q.8 किस केंद्र शासित प्रदेश का अपना एक उच्च न्यायालय है?

- Ans
- ✗ 1. दादरा और नगर हवेली
 - ✗ 2. चंडीगढ़
 - ✓ 3. दिल्ली
 - ✗ 4. अंडमान और निकोबार द्वीप समूह

Question Type : MCQ
Question ID : 264330135455
Option 1 ID : 264330530727
Option 2 ID : 264330530730
Option 3 ID : 264330530729
Option 4 ID : 264330530728
Status : Answered
Chosen Option : 3

Q.9 दुनिया में सबसे पुराना टेनिस टूर्नामेंट कौन-सा है?

- Ans
- ✗ 1. फ्रेंच ओपन
 - ✗ 2. ऑस्ट्रेलियन ओपन
 - ✗ 3. यू.एस. ओपन
 - ✓ 4. विंबलडन

Question Type : MCQ
Question ID : 264330138325
Option 1 ID : 264330541907
Option 2 ID : 264330541910
Option 3 ID : 264330541909
Option 4 ID : 264330541908
Status : Answered
Chosen Option : 4

Q.10 रुक्मिणी देवी अरुंडेल किस नृत्य शैली की प्रसिद्ध नृत्यांगना थीं?

- Ans
- 1. मोहिनीअट्टम
 - 2. भरतनाट्यम
 - 3. कथकली
 - 4. कुचिपुड़ी

Question Type : MCQ
Question ID : 264330135436
Option 1 ID : 264330530653
Option 2 ID : 264330530654
Option 3 ID : 264330530651
Option 4 ID : 264330530652
Status : Answered
Chosen Option : 4

Q.11 निम्नलिखित में से कौन-सा भारत के संविधान में एक मौलिक अधिकार है?

- Ans
- 1. मताधिकार (Right to Vote)
 - 2. अवसरों का अधिकार (Right to Opportunities)
 - 3. स्वतंत्रता का अधिकार (Right to Freedom)
 - 4. रोज़गार का अधिकार (Right to Work)

Question Type : MCQ
Question ID : 264330135454
Option 1 ID : 264330530726
Option 2 ID : 264330530724
Option 3 ID : 264330530723
Option 4 ID : 264330530725
Status : Answered
Chosen Option : 3

Q.12 निम्न में से कौन-सा फसल कटाई त्योहार प्रसिद्ध रूप से असम में मनाया जाता है?

- Ans
- 1. भोगाली बिहू
 - 2. ओणम
 - 3. लोहड़ी
 - 4. मकर संक्रांति

Question Type : MCQ
Question ID : 264330135437
Option 1 ID : 264330530655
Option 2 ID : 264330530658
Option 3 ID : 264330530656
Option 4 ID : 264330530657
Status : Answered
Chosen Option : 1

Q.13 वर्ष 1947 में जब भारत में ब्रिटिश शासन समाप्त हुआ तो साक्षरता दर सिर्फ _____ थी।

- Ans
- ✓ 1. 12 प्रतिशत
 - ✗ 2. 22 प्रतिशत
 - ✗ 3. 18 प्रतिशत
 - ✗ 4. 20 प्रतिशत

Question Type : MCQ
Question ID : 264330137955
Option 1 ID : 264330540428
Option 2 ID : 264330540430
Option 3 ID : 264330540429
Option 4 ID : 264330540427
Status : Answered
Chosen Option : 2

Q.14 नेशनल इंस्टीट्यूट ऑफ इंडियन क्लासिकल डान्स (National Institute of Indian Classical Dance) द्वारा 2021 का प्रतिष्ठित अभिनंदन सरोजा राष्ट्रीय पुरस्कार किसे दिया गया?

- Ans
- ✗ 1. सरोज खान
 - ✗ 2. पंडित बिरजू महाराज
 - ✗ 3. श्रीमंत शंकरदेव
 - ✓ 4. अपर्णा सतीसन (Aparna Satheesan)

Question Type : MCQ
Question ID : 264330133667
Option 1 ID : 264330523693
Option 2 ID : 264330523694
Option 3 ID : 264330523691
Option 4 ID : 264330523692
Status : Answered
Chosen Option : 4

Q.15 उस्ताद शफात अहमद खान निम्नलिखित में से किस वाद्य यंत्र के लिए प्रसिद्ध थे?

- Ans
- ✗ 1. हरमोनियम
 - ✓ 2. तबला
 - ✗ 3. वायलिन
 - ✗ 4. रुद्र वीणा

Question Type : MCQ
Question ID : 264330135452
Option 1 ID : 264330530717
Option 2 ID : 264330530715
Option 3 ID : 264330530716
Option 4 ID : 264330530718
Status : Answered
Chosen Option : 4

Q.16 हर्षवर्धन के दरबारी कवि कौन थे?

- Ans
- 1. हेम सरस्वती
 - 2. श्री पोन्ना
 - 3. बाणभट्ट
 - 4. परमानन्द

Question Type : MCQ
Question ID : 264330135447
Option 1 ID : 264330530697
Option 2 ID : 264330530696
Option 3 ID : 264330530698
Option 4 ID : 264330530695
Status : Answered
Chosen Option : 3

Q.17 जो बल पृथ्वी के आंतरिक भाग में घटित होते हैं उन्हें _____ कहते हैं।

- Ans
- 1. बहिर्जनिक बल
 - 2. गुरुत्वाकर्षण बल
 - 3. अंतर्जनित बल
 - 4. घर्षण बल

Question Type : MCQ
Question ID : 264330138336
Option 1 ID : 264330541951
Option 2 ID : 264330541953
Option 3 ID : 264330541952
Option 4 ID : 264330541954
Status : Answered
Chosen Option : 3

Q.18 सर्वप्रथम कॉक की कोशिकाओं की खोज _____ ने 1665 में की।

- Ans
- 1. एडवर्ड जेनर (Edward Jenner)
 - 2. रॉबर्ट हुक (Robert Hooke)
 - 3. थियोफ्रेस्टस (Theophrastus)
 - 4. एंटोनी वॉन ल्यूवेनहुक (Anton van Leeuwenhoek)

Question Type : MCQ
Question ID : 264330138335
Option 1 ID : 264330541948
Option 2 ID : 264330541947
Option 3 ID : 264330541950
Option 4 ID : 264330541949
Status : Answered
Chosen Option : 4

Q.19 चुनाव कानून (संशोधन) विधेयक, 2021 भारत के _____ मंत्रालय से संबंधित है।

- Ans
- ✓ 1. कानून और न्याय
 - ✗ 2. पृथ्वी विज्ञान
 - ✗ 3. जनजातीय कार्य
 - ✗ 4. गृह मंत्रालय

Question Type : MCQ
Question ID : 264330133932
Option 1 ID : 264330524754
Option 2 ID : 264330524753
Option 3 ID : 264330524752
Option 4 ID : 264330524751
Status : Answered
Chosen Option : 1

Q.20 प्रार्थना समाज के संस्थापक कौन थे?

- Ans
- ✗ 1. तुलसी राम
 - ✓ 2. आत्माराम पांडुरंग
 - ✗ 3. राम सिंह
 - ✗ 4. स्वामी विवेकानंद

Question Type : MCQ
Question ID : 264330135450
Option 1 ID : 264330530710
Option 2 ID : 264330530707
Option 3 ID : 264330530709
Option 4 ID : 264330530708
Status : Answered
Chosen Option : 2

Q.21 किस राज्य सरकार ने "पंचामृत योजना (Panchamrut Yojana)" शुरू की है?

- Ans
- ✗ 1. कर्नाटक
 - ✓ 2. उत्तरप्रदेश
 - ✗ 3. उड़ीसा
 - ✗ 4. पश्चिम बंगाल

Question Type : MCQ
Question ID : 264330135434
Option 1 ID : 264330530646
Option 2 ID : 264330530643
Option 3 ID : 264330530645
Option 4 ID : 264330530644
Status : Answered
Chosen Option : 3

Q.22 सरकार का हस्तक्षेप, चाहे वह माँग का विस्तार करने के लिए हो अथवा इसे कम करने के लिए _____ कहलाता है।

- Ans
- 1. व्यय कार्य (expenditure function)
 - 2. संक्रमण कार्य (transition function)
 - 3. पुनर्वितरण कार्य (redistribution function)
 - 4. स्थिरीकरण कार्य (stabilisation function)

Question Type : MCQ
Question ID : 264330133672
Option 1 ID : 264330523712
Option 2 ID : 264330523714
Option 3 ID : 264330523713
Option 4 ID : 264330523711
Status : Answered
Chosen Option : 4

Q.23 एक हॉकी टीम में मैदान पर कितने खिलाड़ी (field players) होते हैं?

- Ans
- 1. 14
 - 2. 7
 - 3. 9
 - 4. 11

Question Type : MCQ
Question ID : 264330135456
Option 1 ID : 264330530731
Option 2 ID : 264330530733
Option 3 ID : 264330530734
Option 4 ID : 264330530732
Status : Answered
Chosen Option : 4

Q.24 किस नदी को दक्षिण गंगा के नाम से भी जाना जाता है?

- Ans
- 1. कृष्णा
 - 2. गोदावरी
 - 3. कावेरी
 - 4. तुंगभद्रा

Question Type : MCQ
Question ID : 264330135444
Option 1 ID : 264330530683
Option 2 ID : 264330530686
Option 3 ID : 264330530684
Option 4 ID : 264330530685
Status : Answered
Chosen Option : 2

Q.25 गोरखपुर भारत के _____ रेलवे का मुख्यालय है।

- Ans
- 1. पूर्वी
 - 2. पश्चिमी
 - 3. उत्तर-पूर्वी
 - 4. उत्तरी

Question Type : MCQ
Question ID : 264330133657
Option 1 ID : 264330523654
Option 2 ID : 264330523653
Option 3 ID : 264330523652
Option 4 ID : 264330523651
Status : Answered
Chosen Option : 1

Section : English Language and Comprehension

Q.1 Choose the incorrectly spelt word.

- Ans
- 1. Start
 - 2. Discribe
 - 3. Melting
 - 4. Advance

Question Type : MCQ
Question ID : 264330135200
Option 1 ID : 264330529730
Option 2 ID : 264330529727
Option 3 ID : 264330529728
Option 4 ID : 264330529729
Status : Answered
Chosen Option : 2

Q.2 In the following question, out of the given four alternatives, select the alternative which best expresses the meaning of the Idiom/Phrase.

Out of the woods

- Ans
- 1. Out of danger
 - 2. To meet with disaster
 - 3. Not adhering to rules
 - 4. To lose contact

Question Type : MCQ
Question ID : 264330135199
Option 1 ID : 264330529724
Option 2 ID : 264330529725
Option 3 ID : 264330529726
Option 4 ID : 264330529723
Status : Answered
Chosen Option : 3

Q.3 Choose the sentence with no spelling error.

- Ans
- 1. Servise industries rely on a set of processes.
 - 2. Service industreis relie on a set of processes.
 - 3. Service industries rely on a set of processes.
 - 4. Service industries rely on a set of procceses.

Question Type : MCQ
Question ID : 264330135201
Option 1 ID : 264330529734
Option 2 ID : 264330529733
Option 3 ID : 264330529732
Option 4 ID : 264330529731
Status : Answered
Chosen Option : 3

Q.4 Select the most appropriate option to fill in the blank.

We didn't mean to _____ all of you waiting.

- Ans
- 1. make
 - 2. seep
 - 3. creep
 - 4. keep

Question Type : MCQ
Question ID : 264330135202
Option 1 ID : 264330529738
Option 2 ID : 264330529737
Option 3 ID : 264330529736
Option 4 ID : 264330529735
Status : Answered
Chosen Option : 4

Q.5 Select the word segment that substitutes (replaces) the bracketed word segment correctly and completes the sentence meaningfully. Select the option 'no correction required' if the sentence is correct as given.

Now, (how much autograph) would you like? I can do joined-up writing now, you know!

- Ans
- 1. how much many autographs
 - 2. how many autographs
 - 3. how most autographs
 - 4. No correction required

Question Type : MCQ
Question ID : 264330136387
Option 1 ID : 264330534317
Option 2 ID : 264330534315
Option 3 ID : 264330534316
Option 4 ID : 264330534318
Status : Answered
Chosen Option : 2

Q.6 Select the most appropriate meaning of the given idiom.

Buy a lemon

- Ans
- 1. To buy something that is worthless
 - 2. The ability to know what's happening
 - 3. To not complain
 - 4. Wear fashionable clothing

Question Type : MCQ
Question ID : 264330136711
Option 1 ID : 264330535556
Option 2 ID : 264330535555
Option 3 ID : 264330535558
Option 4 ID : 264330535557
Status : Answered
Chosen Option : 1

Q.7 Find the part of the given sentence that has an error in it. If there is no error, choose 'No error'.

Some plants secrete oils during dry periods, and when it rains, these oils are released on the air.

- Ans
- 1. Some plants secrete oils during
 - 2. dry periods, and when it rains,
 - 3. these oils are released on the air.
 - 4. No error

Question Type : MCQ
Question ID : 264330135180
Option 1 ID : 264330529651
Option 2 ID : 264330529652
Option 3 ID : 264330529653
Option 4 ID : 264330529654
Status : Answered
Chosen Option : 3

Q.8 Improve the underlined part of the sentence. Choose 'No improvement' as an answer if the sentence is grammatically correct.

The water leaked in with a hole in the roof.

- Ans
- 1. through a holes
 - 2. through a hole
 - 3. by a holed
 - 4. No improvement

Question Type : MCQ
Question ID : 264330134480
Option 1 ID : 264330526887
Option 2 ID : 264330526888
Option 3 ID : 264330526889
Option 4 ID : 264330526890
Status : Answered
Chosen Option : 2

Q.9 Select the most appropriate option to fill in the blank.

Everyone who studies forests knows trees have been dying in large and _____ numbers.

- Ans
- 1. scanty
 - 2. massive
 - 3. minority
 - 4. peculiar

Question Type : **MCQ**
Question ID : **264330135203**
Option 1 ID : **264330529741**
Option 2 ID : **264330529742**
Option 3 ID : **264330529740**
Option 4 ID : **264330529739**
Status : **Answered**
Chosen Option : **2**

Q.10 Select the appropriate synonym for the underlined word.

He wasn't entirely convinced.

- Ans
- 1. doubting
 - 2. trustless
 - 3. submerged
 - 4. accepting

Question Type : **MCQ**
Question ID : **264330135194**
Option 1 ID : **264330529706**
Option 2 ID : **264330529704**
Option 3 ID : **264330529703**
Option 4 ID : **264330529705**
Status : **Answered**
Chosen Option : **4**

Q.11 A sentence has been given with a blank to be filled with an appropriate option. Choose the correct alternative.

Air Travel is the _____ growing emitter of climate change gases.

- Ans
- 1. fast
 - 2. fasting
 - 3. fastest
 - 4. fastly

Question Type : **MCQ**
Question ID : **264330135184**
Option 1 ID : **264330529670**
Option 2 ID : **264330529667**
Option 3 ID : **264330529668**
Option 4 ID : **264330529669**
Status : **Answered**
Chosen Option : **3**

Q.12 Choose the word that means the same as the given word.

Valiance

- Ans
- 1. Cravenness
 - 2. Patience
 - 3. Gallantry
 - 4. Dastardliness

Question Type : **MCQ**
Question ID : **264330135221**
Option 1 ID : **264330529809**
Option 2 ID : **264330529807**
Option 3 ID : **264330529810**
Option 4 ID : **264330529808**
Status : **Answered**
Chosen Option : **3**

Q.13 Choose the word that can substitute the given group of words.

A diagram showing the path of planets

- Ans
- 1. Platitude
 - 2. Horoscope
 - 3. Zodiac
 - 4. Planetarium

Question Type : **MCQ**
Question ID : **264330135193**
Option 1 ID : **264330529701**
Option 2 ID : **264330529702**
Option 3 ID : **264330529700**
Option 4 ID : **264330529699**
Status : **Answered**
Chosen Option : **4**

Q.14 Find the part of the given sentence that has an error in it. If there is no error, choose 'No error'.

Just because I am quiet doesn't mean I can't scold you.

- Ans
- 1. quiet doesn't mean
 - 2. Just because I am
 - 3. No error
 - 4. I can't scold you.

Question Type : **MCQ**
Question ID : **264330134346**
Option 1 ID : **264330526372**
Option 2 ID : **264330526371**
Option 3 ID : **264330526374**
Option 4 ID : **264330526373**
Status : **Answered**
Chosen Option : **1**

Q.15 Select the most appropriate word for the given group of words.

One who makes an active effort to promote human welfare

Ans ✓ 1. Philanthropist

✗ 2. Misogynist

✗ 3. Feminist

✗ 4. Sexist

Question Type : **MCQ**

Question ID : **264330136705**

Option 1 ID : **264330535533**

Option 2 ID : **264330535532**

Option 3 ID : **264330535531**

Option 4 ID : **264330535534**

Status : **Answered**

Chosen Option : **1**

Q.16 A sentence has been given with a blank to be filled with an appropriate option. Choose the correct alternative.

The home I _____ with my husband in 1986 still smelled like him.

Ans ✗ 1. shared

✓ 2. had shared

✗ 3. sharing

✗ 4. have shared

Question Type : **MCQ**

Question ID : **264330135211**

Option 1 ID : **264330529773**

Option 2 ID : **264330529774**

Option 3 ID : **264330529771**

Option 4 ID : **264330529772**

Status : **Answered**

Chosen Option : **2**

Q.17 Choose the word that is opposite in meaning to the given word.

Proceed

Ans ✗ 1. Wide

✓ 2. Withdraw

✗ 3. Local

✗ 4. Accidental

Question Type : **MCQ**

Question ID : **264330134416**

Option 1 ID : **264330526639**

Option 2 ID : **264330526641**

Option 3 ID : **264330526642**

Option 4 ID : **264330526640**

Status : **Answered**

Chosen Option : **2**

Q.18 Identify the segment that contains a grammatical error. If there is no error, select 'No error'.

Much of the art he / discusses is funny, playing / and mischievous.

- Ans**
- 1. No error
 - 2. Much of the art he
 - 3. and mischievous.
 - 4. discusses is funny, playing

Question Type : **MCQ**
Question ID : **264330136384**
Option 1 ID : **264330534306**
Option 2 ID : **264330534303**
Option 3 ID : **264330534305**
Option 4 ID : **264330534304**
Status : **Answered**
Chosen Option : **4**

Q.19 Improve the underlined part of the sentence. Choose 'No improvement' as an answer if the sentence is grammatically correct.

My parents used to encouraged me to devote more time to study.

- Ans**
- 1. encouraging me devoting
 - 2. encourages me to devote
 - 3. encourage me to devote
 - 4. No improvement

Question Type : **MCQ**
Question ID : **264330135209**
Option 1 ID : **264330529764**
Option 2 ID : **264330529763**
Option 3 ID : **264330529765**
Option 4 ID : **264330529766**
Status : **Answered**
Chosen Option : **3**

Q.20 Select the appropriate antonym for the underlined word.

A war has been unleashed on financial untouchability.

- Ans**
- 1. regarded
 - 2. unchained
 - 3. confined
 - 4. free

Question Type : **MCQ**
Question ID : **264330135197**
Option 1 ID : **264330529718**
Option 2 ID : **264330529715**
Option 3 ID : **264330529717**
Option 4 ID : **264330529716**
Status : **Answered**
Chosen Option : **3**

Comprehension:

In the following passage some of the words have been deleted. Read the passage carefully and select the correct answer for the given blank out of the four alternatives.

When Jane died (1) _____ 1850, she was called "one of the most distinguished novelists (2) _____ England has produced" and "the first who (3) _____ that beautiful kind of fiction, the historical romance." The Porter sisters' careers ended (4) _____ as the Brontë sisters were getting started in the early Victorian (5) _____.

SubQuestion No : 21

Q.21 Select the most appropriate option to fill in blank number 1.

Ans 1. into

2. in

3. at

4. on

Question Type : **MCQ**

Question ID : **264330134407**

Option 1 ID : **264330526606**

Option 2 ID : **264330526603**

Option 3 ID : **264330526605**

Option 4 ID : **264330526604**

Status : **Answered**

Chosen Option : **2**

Comprehension:

In the following passage some of the words have been deleted. Read the passage carefully and select the correct answer for the given blank out of the four alternatives.

When Jane died (1) _____ 1850, she was called "one of the most distinguished novelists (2) _____ England has produced" and "the first who (3) _____ that beautiful kind of fiction, the historical romance." The Porter sisters' careers ended (4) _____ as the Brontë sisters were getting started in the early Victorian (5) _____.

SubQuestion No : 22

Q.22 Select the most appropriate option to fill in blank number 2.

Ans 1. who

2. which

3. what

4. whose

Question Type : **MCQ**

Question ID : **264330134408**

Option 1 ID : **264330526608**

Option 2 ID : **264330526607**

Option 3 ID : **264330526610**

Option 4 ID : **264330526609**

Status : **Answered**

Chosen Option : **2**

Comprehension:

In the following passage some of the words have been deleted. Read the passage carefully and select the correct answer for the given blank out of the four alternatives.

When Jane died (1) _____ 1850, she was called "one of the most distinguished novelists (2) _____ England has produced" and "the first who (3) _____ that beautiful kind of fiction, the historical romance." The Porter sisters' careers ended (4) _____ as the Brontë sisters were getting started in the early Victorian (5) _____.

SubQuestion No : 23**Q.23** Select the most appropriate option to fill in blank number 3.Ans 1. dismissed 2. energized 3. introduced 4. castedQuestion Type : **MCQ**Question ID : **264330134409**Option 1 ID : **264330526614**Option 2 ID : **264330526611**Option 3 ID : **264330526612**Option 4 ID : **264330526613**Status : **Answered**Chosen Option : **3****Comprehension:**

In the following passage some of the words have been deleted. Read the passage carefully and select the correct answer for the given blank out of the four alternatives.

When Jane died (1) _____ 1850, she was called "one of the most distinguished novelists (2) _____ England has produced" and "the first who (3) _____ that beautiful kind of fiction, the historical romance." The Porter sisters' careers ended (4) _____ as the Brontë sisters were getting started in the early Victorian (5) _____.

SubQuestion No : 24**Q.24** Select the most appropriate option to fill in blank number 4.Ans 1. lest 2. just 3. must 4. thatQuestion Type : **MCQ**Question ID : **264330134410**Option 1 ID : **264330526618**Option 2 ID : **264330526617**Option 3 ID : **264330526616**Option 4 ID : **264330526615**Status : **Answered**Chosen Option : **2**

Comprehension:

In the following passage some of the words have been deleted. Read the passage carefully and select the correct answer for the given blank out of the four alternatives.

When Jane died (1) _____ 1850, she was called "one of the most distinguished novelists (2) _____ England has produced" and "the first who (3) _____ that beautiful kind of fiction, the historical romance." The Porter sisters' careers ended (4) _____ as the Brontë sisters were getting started in the early Victorian (5) _____.

SubQuestion No : 25

Q.25 Select the most appropriate option to fill in blank number 5.

- Ans
- 1. spell
 - 2. session
 - 3. terms
 - 4. period

Question Type : **MCQ**

Question ID : **264330134411**

Option 1 ID : **264330526619**

Option 2 ID : **264330526621**

Option 3 ID : **264330526620**

Option 4 ID : **264330526622**

Status : **Answered**

Chosen Option : **4**

Multi Tasking Non Technical Staff and Havaladar CBIC and CBN Examination 2022

Roll Number	KD Job Updates
Candidate Name	KD Job Updates
Venue Name	Allenhouse Informatics Center
Exam Date	03/05/2023
Exam Time	3:30 PM - 5:00 PM
Subject	MTS Non Tech Havaladar CBIC and CBN Examination 2022

Section : Numerical and Mathematical Ability

Q.1 एक निश्चित धनराशि पर 2 वर्षों में 3% वार्षिक दर पर साधारण ब्याज और चक्रवृद्धि ब्याज में 90 पैसे (paise) का अंतर है। वह धनराशि क्या है?

- Ans
- 1. Rs. 3000
 - 2. Rs. 9000
 - 3. Rs. 1000
 - 4. Rs. 5000

Question Type : MCQ

Question ID : 264330135121

Option 1 ID : 264330529421

Option 2 ID : 264330529420

Option 3 ID : 264330529419

Option 4 ID : 264330529422

Status : Answered

Chosen Option : 3

Q.2 निम्नलिखित तालिका में एक सप्ताह में चार अलग-अलग ब्रांड स्टोर में आने वाले खरीदारों की संख्या को दर्शाया गया है। इस सप्ताह के दौरान ब्रांड R के खरीदारों की संख्या, ब्रांड P के खरीदारों की संख्या से कितने प्रतिशत अधिक है?

Brand	Number of buyers
P	400
Q	530
R	415
S	310

Brand - ब्रांड, Number of buyers - खरीदारों की संख्या

- Ans
- 1. 2.25%
 - 2. 5.50%
 - 3. 3.75%
 - 4. 4.25%

Question Type : MCQ

Question ID : 264330138741

Option 1 ID : 264330543574

Option 2 ID : 264330543572

Option 3 ID : 264330543573

Option 4 ID : 264330543571

Status : Answered

Chosen Option : 3

Q.3 $841 + 6 \times 15 + 45\%$ of 60 का मान ज्ञात कीजिए:

- Ans
- 1. 765
 - 2. 888
 - 3. 958
 - 4. 654

Question Type : MCQ
Question ID : 264330135130
Option 1 ID : 264330529458
Option 2 ID : 264330529457
Option 3 ID : 264330529456
Option 4 ID : 264330529455
Status : Answered
Chosen Option : 3

Q.4 साजिद ने 60 km/hr की चाल से 6 घंटे और 50 km/hr की चाल से 4 घंटे गाड़ी चलाई। पूरी यात्रा के दौरान उसकी औसत चाल क्या थी?

- Ans
- 1. 52 kmph
 - 2. 58 kmph
 - 3. 56 kmph
 - 4. 54 kmph

Question Type : MCQ
Question ID : 264330141022
Option 1 ID : 264330552436
Option 2 ID : 264330552438
Option 3 ID : 264330552435
Option 4 ID : 264330552437
Status : Answered
Chosen Option : 3

Q.5 1.05 और 6.23 का महत्तम समापवर्तक (HCF) क्या है?

- Ans
- 1. 0.21
 - 2. 0.89
 - 3. 0.35
 - 4. 0.07

Question Type : MCQ
Question ID : 264330141021
Option 1 ID : 264330552433
Option 2 ID : 264330552432
Option 3 ID : 264330552434
Option 4 ID : 264330552431
Status : Answered
Chosen Option : 4

Q.6 एक उत्पाद, जिसका अंकित मूल्य Rs. 840 है, एक थोक व्यापारी द्वारा Rs. 798 में बेचा जाता है। व्यापारी द्वारा दिया गया बड़ा प्रतिशत क्या है?

- Ans
- 1. 6%
 - 2. 5%
 - 3. 4%
 - 4. 3%

Question Type : MCQ

Question ID : 264330135139

Option 1 ID : 264330529491

Option 2 ID : 264330529494

Option 3 ID : 264330529492

Option 4 ID : 264330529493

Status : Answered

Chosen Option : 2

Q.7 8, 14 और 24 का चतुर्थ समानुपाती ज्ञात कीजिए।

- Ans
- 1. 36
 - 2. 26
 - 3. 42
 - 4. 40

Question Type : MCQ

Question ID : 264330135141

Option 1 ID : 264330529502

Option 2 ID : 264330529499

Option 3 ID : 264330529501

Option 4 ID : 264330529500

Status : Answered

Chosen Option : 3

Q.8 अखिल ने 13 kg सेब Rs. 2,400 में खरीदे। उसने 7 kg सेब के विक्रय मूल्य के बराबर लाभ पर इन्हें बेच दिया। सेब का प्रति किलोग्राम विक्रय मूल्य ज्ञात कीजिए।

- Ans
- 1. Rs. 400
 - 2. Rs. 600
 - 3. Rs. 650
 - 4. Rs. 350

Question Type : MCQ

Question ID : 264330135138

Option 1 ID : 264330529488

Option 2 ID : 264330529487

Option 3 ID : 264330529489

Option 4 ID : 264330529490

Status : Answered

Chosen Option : 1

Q.9 एक बेलन और शंकु की विज्याओं का अनुपात 3:1 है। यदि उनकी ऊँचाइयाँ बराबर हैं, तो उनके आयतनों का अनुपात क्या है?

- Ans 1. 27:1
 2. 9:1
 3. 1:9
 4. 1:3

Question Type : MCQ
Question ID : 264330138367
Option 1 ID : 264330542075
Option 2 ID : 264330542077
Option 3 ID : 264330542078
Option 4 ID : 264330542076
Status : Answered
Chosen Option : 1

Q.10 A अकेले किसी कार्य का आधा भाग 150 दिनों में पूरा कर सकता है। 50 दिनों में, A द्वारा कितने प्रतिशत कार्य पूरा किया जाएगा?

- Ans 1. 15 प्रतिशत
 2. 16.67 प्रतिशत
 3. 22.5 प्रतिशत
 4. 20 प्रतिशत

Question Type : MCQ
Question ID : 264330135042
Option 1 ID : 264330529106
Option 2 ID : 264330529105
Option 3 ID : 264330529103
Option 4 ID : 264330529104
Status : Answered
Chosen Option : 2

Q.11 यदि ब्याज अर्धवार्षिक रूप से संयोजित किया जा रहा है, तो कितनी राशि चक्रवृद्धि ब्याज पर 40 प्रतिशत वार्षिक दर से 2 वर्ष में Rs. 51840 हो जाएगी।

- Ans 1. Rs.20000
 2. Rs.15000
 3. Rs.25000
 4. Rs.30000

Question Type : MCQ
Question ID : 264330137186
Option 1 ID : 264330537388
Option 2 ID : 264330537387
Option 3 ID : 264330537389
Option 4 ID : 264330537390
Status : Answered
Chosen Option : 3

Q.12

$\left[\frac{1}{4} \text{ of } 18 \div \frac{6}{5} + \left(\frac{1}{8} + \frac{7}{4} \right) \right] \times \frac{1}{15}$ का मान है:

- Ans
- 1. 4/5
 - 2. 5/8
 - 3. 6/7
 - 4. 3/8

Question Type : MCQ

Question ID : 264330138725

Option 1 ID : 264330543508

Option 2 ID : 264330543510

Option 3 ID : 264330543509

Option 4 ID : 264330543507

Status : Answered

Chosen Option : 1

Q.13 स्थिर जल में एक नाव की चाल 17 km/hr है और धारा की चाल 11 km/hr है। नाव की धारा के प्रतिकूल चाल और धारा के अनुकूल चाल के बीच का अंतर ज्ञात कीजिए।

- Ans
- 1. 21 km/hr
 - 2. 18 km/hr
 - 3. 28 km/hr
 - 4. 22 km/hr

Question Type : MCQ

Question ID : 264330135144

Option 1 ID : 264330529511

Option 2 ID : 264330529514

Option 3 ID : 264330529513

Option 4 ID : 264330529512

Status : Answered

Chosen Option : 4

Q.14 संख्या A और B का औसत 16 है। संख्या B और C का औसत 40 है। संख्या C और A में कितना अंतर है?

- Ans
- 1. 48
 - 2. 12
 - 3. 66
 - 4. 80

Question Type : MCQ

Question ID : 264330135133

Option 1 ID : 264330529470

Option 2 ID : 264330529469

Option 3 ID : 264330529467

Option 4 ID : 264330529468

Status : Answered

Chosen Option : 1

Q.15 a:b = 5:8 और b:c = 2:6, यदि a = 25 है, तो c का मान ज्ञात कीजिए।

- Ans
- 1. 90
 - 2. 140
 - 3. 120
 - 4. 96

Question Type : MCQ

Question ID : 264330135140

Option 1 ID : 264330529496

Option 2 ID : 264330529498

Option 3 ID : 264330529495

Option 4 ID : 264330529497

Status : Answered

Chosen Option : 3

Q.16 D अकेले किसी कार्य को 20 दिनों में कर सकता है और E अकेले उसी कार्य को 25 दिनों में कर सकता है। यदि वे 8 दिनों तक साथ मिलकर कार्य करते हैं, तो शेष रह गए कार्य का अंश है:

- Ans
- 1. 7/25
 - 2. 9/100
 - 3. 11/25
 - 4. 51/100

Question Type : MCQ

Question ID : 264330138362

Option 1 ID : 264330542055

Option 2 ID : 264330542058

Option 3 ID : 264330542057

Option 4 ID : 264330542056

Status : Answered

Chosen Option : 1

Q.17 एक घनाभ की लंबाई उसकी चौड़ाई की छः गुनी है और घनाभ की ऊँचाई उसकी चौड़ाई की चार गुनी है। यदि घनाभ की चौड़ाई 3 cm है, तो घनाभ का कुल पृष्ठीय क्षेत्रफल कितना है?

- Ans
- 1. 612 cm²
 - 2. 576 cm²
 - 3. 484 cm²
 - 4. 676 cm²

Question Type : MCQ

Question ID : 264330135057

Option 1 ID : 264330529166

Option 2 ID : 264330529164

Option 3 ID : 264330529163

Option 4 ID : 264330529165

Status : Answered

Chosen Option : 1

Q.18 रोहित Rs.880 में एक पुराना बल्ला खरीदता है और उसकी मरम्मत पर Rs.120 खर्च करता है। यदि वह इसे Rs.800 में बेचता है, तो हानि प्रतिशत क्या है?

- Ans
- 1. 25 प्रतिशत
 - 2. 20 प्रतिशत
 - 3. 10 प्रतिशत
 - 4. 30 प्रतिशत

Question Type : MCQ

Question ID : 264330137651

Option 1 ID : 264330539211

Option 2 ID : 264330539213

Option 3 ID : 264330539214

Option 4 ID : 264330539212

Status : Answered

Chosen Option : 2

Q.19 किसी वस्तु के मूल्य में क्रमागत 20% और 30% की कमी, वस्तु के मूल्य में _____ एकल कमी के बराबर है।

- Ans
- 1. 50%
 - 2. 40%
 - 3. 44%
 - 4. 25%

Question Type : MCQ

Question ID : 264330135114

Option 1 ID : 264330529391

Option 2 ID : 264330529394

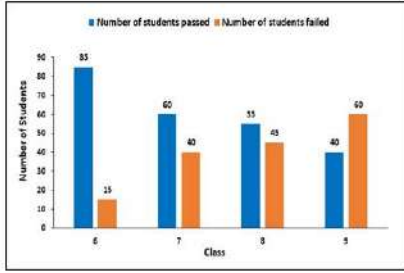
Option 3 ID : 264330529393

Option 4 ID : 264330529392

Status : Answered

Chosen Option : 3

Q.20 निम्न दंड आलेख में एक विद्यालय में विभिन्न कक्षाओं में उत्तीर्ण और अनुत्तीर्ण होने वाले छात्रों की संख्या को दर्शाया गया है। यदि प्रत्येक कक्षा में विद्यार्थियों की कुल संख्या 100 है, तो परीक्षा में उत्तीर्ण होने वाले विद्यार्थियों का प्रतिशत ज्ञात कीजिए।



number of students - छात्रों की संख्या

number of students passed - उत्तीर्ण छात्रों की संख्या

number of students failed - अनुत्तीर्ण छात्रों की संख्या

class- कक्षा

- Ans**
- ✗ 1. 25%
 - ✗ 2. 65%
 - ✗ 3. 55%
 - ✓ 4. 60%

Question Type : **MCQ**

Question ID : **264330135148**

Option 1 ID : **264330529527**

Option 2 ID : **264330529530**

Option 3 ID : **264330529529**

Option 4 ID : **264330529528**

Status : **Answered**

Chosen Option : **4**

Section : Reasoning Ability and Problem Solving

Q.1 एक निश्चित कूट भाषा में, 'CUT' को 'BD21SU' लिखा जाता है। उस कूट भाषा में 'DRY' को कैसे लिखा जाएगा?

- Ans**
- ✓ 1. CE18XZ
 - ✗ 2. CE18ZX
 - ✗ 3. C18EXZ
 - ✗ 4. CZ18EX

Question Type : **MCQ**

Question ID : **264330137812**

Option 1 ID : **264330539855**

Option 2 ID : **264330539858**

Option 3 ID : **264330539856**

Option 4 ID : **264330539857**

Status : **Answered**

Chosen Option : **1**

Q.2 दो कथन दिए गए हैं और दो निष्कर्ष I और II दिए गए हैं। कथनों को सत्य मानते हुए, चाहे वे सामान्यतः ज्ञात तथ्यों से अलग प्रतीत हों, निश्चय कीजिए कि कौन-सा निष्कर्ष तार्किक रूप से कथनों के अनुसार है।

कथन:

कुछ गाने, बर्फ हैं।

कुछ बर्फ, जूते हैं।

निष्कर्ष:

I. कुछ जूते, बर्फ हैं।

II. कुछ बर्फ, गाने हैं।

Ans 1.

न तो निष्कर्ष I और न ही निष्कर्ष II कथनों के अनुसार है।

2. केवल निष्कर्ष II कथनों के अनुसार है।

3. दोनों निष्कर्ष I और II कथनों के अनुसार हैं।

4. केवल निष्कर्ष I कथनों के अनुसार है।

Question Type : MCQ

Question ID : 264330135031

Option 1 ID : 264330529062

Option 2 ID : 264330529060

Option 3 ID : 264330529061

Option 4 ID : 264330529059

Status : Answered

Chosen Option : 3

Q.3 उस विकल्प को चुनिए जो तीसरे शब्द से ठीक उसी प्रकार संबंधित है जिस प्रकार दूसरा शब्द पहले शब्द से संबंधित है।

सेल्सियस : तापमान :: पाउंड : ?

Ans 1. कोण

2. दूरी

3. समय

4. वजन

Question Type : MCQ

Question ID : 264330135022

Option 1 ID : 264330529026

Option 2 ID : 264330529023

Option 3 ID : 264330529025

Option 4 ID : 264330529024

Status : Answered

Chosen Option : 4

Q.4 दिए गए समीकरण को सही करने के लिए किन दो संख्याओं को आपस में बदला जाना चाहिए?
 $120 \div 12 \times 6 + 24 - 15 = 27$

- Ans
- 1. 6 और 24
 - 2. 12 और 24
 - 3. 12 और 15
 - 4. 12 और 6

Question Type : MCQ
Question ID : 264330137361
Option 1 ID : 264330538073
Option 2 ID : 264330538072
Option 3 ID : 264330538074
Option 4 ID : 264330538071
Status : Answered
Chosen Option : 2

Q.5 तीन कथन दिए गए हैं और दो निष्कर्ष I और II दिए गए हैं। कथनों को सत्य मानते हुए, चाहे वे सामान्यतः ज्ञात तथ्यों से अलग प्रतीत होते हों, निश्चय कीजिए कि कौन-सा निष्कर्ष तार्किक रूप से कथनों के अनुसार है।

कथन:

- सभी कागज, कुर्सी हैं।
- कुछ कुर्सी, जमीन हैं।
- सभी बिल्ली, जमीन हैं।

निष्कर्ष:

- I. कुछ बिल्ली, कुर्सी हैं।
- II. कुछ कुर्सी, कागज नहीं हैं।

- Ans
- 1. केवल निष्कर्ष II कथनों के अनुसार है।
 - 2. केवल निष्कर्ष I कथनों के अनुसार है।
 - 3. न तो निष्कर्ष I और न ही निष्कर्ष II कथनों के अनुसार है।
 - 4. दोनों निष्कर्ष I और II कथनों के अनुसार हैं।

Question Type : MCQ
Question ID : 264330135032
Option 1 ID : 264330529064
Option 2 ID : 264330529063
Option 3 ID : 264330529066
Option 4 ID : 264330529065
Status : Answered
Chosen Option : 2

Q.6 A, B और C एक बेंच पर दक्षिण की ओर मुख करके बैठे हैं। D, E, और F एक समानांतर बेंच पर उत्तर की ओर मुख करके बैठे हैं। D किसी एक सिरे पर और F के ठीक बाईं ओर बैठा है। B, D की ओर उन्मुख होकर बैठा है। C, A के दाईं ओर बैठा है। A की ओर उन्मुख होकर कौन बैठा है?

- Ans
- 1. F
 - 2. E
 - 3. C
 - 4. D

Question Type : MCQ

Question ID : 264330135028

Option 1 ID : 264330529050

Option 2 ID : 264330529049

Option 3 ID : 264330529047

Option 4 ID : 264330529048

Status : Answered

Chosen Option : 2

Q.7 दिए गए पैटर्न का ध्यानपूर्वक अध्ययन कीजिए और उस संख्या को चुनिए जो इसमें प्रश्न चिन्ह (?) के स्थान पर आ सकती है।
पहली पंक्ति - 14, 42, 84
दूसरी पंक्ति - 21, 63, 126
तीसरी पंक्ति - 8, 24, ?

- Ans
- 1. 82
 - 2. 38
 - 3. 48
 - 4. 65

Question Type : MCQ

Question ID : 264330135036

Option 1 ID : 264330529081

Option 2 ID : 264330529080

Option 3 ID : 264330529082

Option 4 ID : 264330529079

Status : Answered

Chosen Option : 3

Q.8 एक निश्चित कूट भाषा में, 'ALBUMS' को 'UMWBNA' लिखा जाता है। उस कूट भाषा में 'CLEVER' को कैसे लिखा जाएगा?

- Ans
- 1. XETENC
 - 2. TEXNEC
 - 3. TEXENC
 - 4. TXEENC

Question Type : MCQ

Question ID : 264330138588

Option 1 ID : 264330542960

Option 2 ID : 264330542961

Option 3 ID : 264330542962

Option 4 ID : 264330542959

Status : Answered

Chosen Option : 3

Q.9 दी गई श्रृंखला में निम्नलिखित में से कौन-सी संख्या प्रश्न चिन्ह (?) के स्थान पर आएगी?
-34, -31, -25, -16, -4, 11, 29, ?

- Ans
- 1. 80
 - 2. 70
 - 3. 60
 - 4. 50

Question Type : MCQ

Question ID : 264330135034

Option 1 ID : 264330529073

Option 2 ID : 264330529074

Option 3 ID : 264330529071

Option 4 ID : 264330529072

Status : Answered

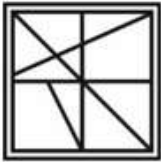
Chosen Option : 4

Q.10 उस विकल्प आकृति को चुनिए जिसमें दी गई आकृति निहित है। (घूर्णन की अनुमति नहीं है)



Ans

1.



2.



3.



4.



Question Type : MCQ

Question ID : 264330138600

Option 1 ID : 264330543007

Option 2 ID : 264330543010

Option 3 ID : 264330543009

Option 4 ID : 264330543008

Status : Answered

Chosen Option : 1

Q.11 एक निश्चित कूट भाषा में, 'STOCK' को '19V15E11' लिखा जाता है। उस भाषा में 'CRYPTO' को कैसे लिखा जाएगा?

- Ans
- 1. 3T25S6VT5
 - 2. 3T2F1AV15
 - 3. 2T2316V15
 - 4. 3T25R20Q

Question Type : MCQ
Question ID : 264330133529
Option 1 ID : 264330523148
Option 2 ID : 264330523149
Option 3 ID : 264330523147
Option 4 ID : 264330523150
Status : Answered
Chosen Option : 4

Q.12 दिए गए समीकरण को सही करने के लिए किन दो चिन्हों को आपस में बदला जाना चाहिए?
 $2 - 8 \div 4 = 6 \times 3 + 18$

- Ans
- 1. \times और $-$
 - 2. $+$ और $-$
 - 3. \times और $+$
 - 4. $=$ और $+$

Question Type : MCQ
Question ID : 264330135037
Option 1 ID : 264330529083
Option 2 ID : 264330529084
Option 3 ID : 264330529085
Option 4 ID : 264330529086
Status : Answered
Chosen Option : 4

Q.13 उमेश, सतीश से बड़ा है। सुरेश, नीरज से छोटा है लेकिन उमेश से बड़ा है। तरुण, रितेश से बड़ा है लेकिन सतीश से छोटा है। मनीष सबसे छोटा है। उनमें से सबसे बड़ा कौन है?

- Ans
- 1. रितेश
 - 2. नीरज
 - 3. सतीश
 - 4. सुरेश

Question Type : MCQ
Question ID : 264330135030
Option 1 ID : 264330529055
Option 2 ID : 264330529057
Option 3 ID : 264330529058
Option 4 ID : 264330529056
Status : Answered
Chosen Option : 2

Q.14 अमर, बिदिशा, कारमेल, दीपा और एलेन एक बेंच पर दक्षिण की ओर मुख करके बैठे हैं। एलेन बेंच के किसी एक सिरे पर बैठी है और उसकी बाईं ओर पर कोई नहीं है। कारमेल, दीपा के ठीक बाईं ओर बैठा है, जो बेंच के एक सिरे पर बैठी है। अमर, बिदिशा की दाहिनी ओर बैठा है। अमर किस स्थान पर बैठा है?

- Ans
- 1. ठीक दीपा और कारमेल के बीच
 - 2. ठीक बिदिशा और एलेन के बीच
 - 3. ठीक दीपा और बिदिशा के बीच
 - 4. ठीक कारमेल और बिदिशा के बीच

Question Type : MCQ

Question ID : 264330135029

Option 1 ID : 264330529051

Option 2 ID : 264330529053

Option 3 ID : 264330529054

Option 4 ID : 264330529052

Status : Answered

Chosen Option : 4

Q.15 उस विकल्प को चुनिए जो तीसरी संख्या से ठीक उसी प्रकार संबंधित है जिस प्रकार दूसरी संख्या पहली संख्या से संबंधित है।

17 : 272 :: 22 : ?

- Ans
- 1. 394
 - 2. 596
 - 3. 462
 - 4. 448

Question Type : MCQ

Question ID : 264330135013

Option 1 ID : 264330528988

Option 2 ID : 264330528987

Option 3 ID : 264330528990

Option 4 ID : 264330528989

Status : Answered

Chosen Option : 3

Q.16 दी गई श्रृंखला में निम्नलिखित में से कौन-सी संख्या प्रश्न चिन्ह (?) के स्थान पर आएगी?
1, 8, 9, 64, 25, 216, 49, ?

- Ans
- 1. 552
 - 2. 385
 - 3. 512
 - 4. 612

Question Type : MCQ

Question ID : 264330135011

Option 1 ID : 264330528982

Option 2 ID : 264330528980

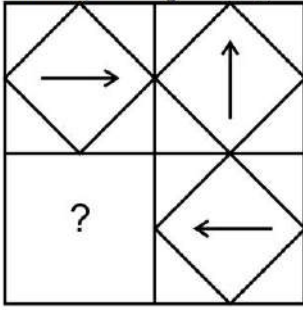
Option 3 ID : 264330528981

Option 4 ID : 264330528979

Status : Answered

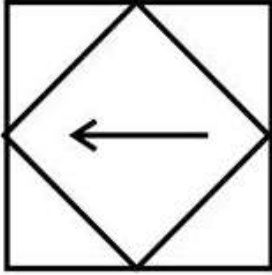
Chosen Option : 3

Q.17 उस विकल्प आकृति को चुनिए जो पैटर्न को पूरा करने के लिए नीचे दी गई आकृति में प्रश्न चिन्ह (?) के स्थान पर आएगी। (घूर्णन की अनुमति नहीं है)

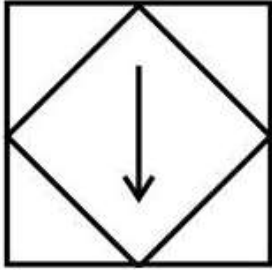


Ans

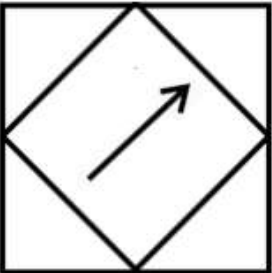
✗ 1.



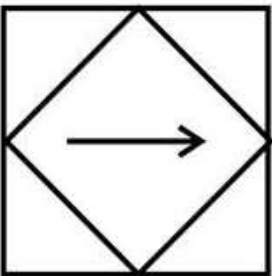
✓ 2.



✗ 3.



✗ 4.



Question Type : MCQ

Question ID : 264330135041

Option 1 ID : 264330529102

Option 2 ID : 264330529100

Option 3 ID : 264330529099

Option 4 ID : 264330529101

Status : Answered

Chosen Option : 2

Q.18 दी गई श्रृंखला में निम्नलिखित में से कौन-सा अक्षर प्रश्न चिन्ह (?) के स्थान पर आएगा?
O, N, L, K, I, H, F, ?

- Ans
- 1. A
 - 2. H
 - 3. F
 - 4. E

Question Type : MCQ

Question ID : 264330135020

Option 1 ID : 264330529016

Option 2 ID : 264330529018

Option 3 ID : 264330529015

Option 4 ID : 264330529017

Status : Answered

Chosen Option : 4

Q.19 यदि एक दर्पण को रेखा AB पर रखा जाए, तो दी गई विकल्प आकृतियों में से कौन-सी आकृति प्रश्न आकृति का सही प्रतिबिम्ब होगी?



Ans

- 1.
- 2.
- 3.
- 4.

Question Type : MCQ

Question ID : 264330138601

Option 1 ID : 264330543011

Option 2 ID : 264330543013

Option 3 ID : 264330543014

Option 4 ID : 264330543012

Status : Answered

Chosen Option : 4

Q.20 उस विकल्प को चुनिए जो तीसरे शब्द से ठीक उसी प्रकार संबंधित है जिस प्रकार दूसरा शब्द पहले शब्द से संबंधित है।

पंखा : पंखड़ियाँ :: साइकिल : ?

- Ans
- 1. कार
 - 2. हाथ
 - 3. बाइक
 - 4. पहिये

Question Type : MCQ

Question ID : 264330135023

Option 1 ID : 264330529027

Option 2 ID : 264330529029

Option 3 ID : 264330529030

Option 4 ID : 264330529028

Status : Answered

Chosen Option : 4

Section : General Awareness

Q.1 वर्ष 2011 की जनगणना के अनुसार, वर्ष 2001-11 के बीच किस केंद्र शासित प्रदेश की दशकीय जनसंख्या वृद्धि दर सबसे अधिक है?

- Ans
- 1. दादरा और नगर हवेली
 - 2. दिल्ली राष्ट्रीय राजधानी क्षेत्र (NCT of Delhi)
 - 3. लक्षद्वीप
 - 4. चंडीगढ़

Question Type : MCQ

Question ID : 264330137030

Option 1 ID : 264330536765

Option 2 ID : 264330536764

Option 3 ID : 264330536766

Option 4 ID : 264330536763

Status : Answered

Chosen Option : 2

Q.2 "मिशन कर्मयोगी (Mission Karmayogi)" कार्यक्रम _____ के लिए है।

- Ans
- 1. प्रशासनिक सेवक
 - 2. चिकित्सक
 - 3. महिला उद्यमी
 - 4. निर्माण श्रमिक

Question Type : MCQ

Question ID : 264330137062

Option 1 ID : 264330536892

Option 2 ID : 264330536893

Option 3 ID : 264330536894

Option 4 ID : 264330536891

Status : Answered

Chosen Option : 3

Q.3 _____ में, अपने मद्रास अधिवेशन में, भारतीय राष्ट्रीय कांग्रेस ने भारत के संविधान का मसौदा (draft) तैयार करने के लिए एक सर्वदलीय बैठक आयोजित की थी।

- Ans
- 1. 1922
 - 2. 1932
 - 3. 1927
 - 4. 1915

Question Type : MCQ
Question ID : 264330137076
Option 1 ID : 264330536948
Option 2 ID : 264330536947
Option 3 ID : 264330536949
Option 4 ID : 264330536950
Status : Answered
Chosen Option : 3

Q.4 निम्नलिखित में से कौन-सा देश 2024 दक्षिण एशियाई खेलों की मेज़बानी करेगा?

- Ans
- 1. नेपाल
 - 2. भारत
 - 3. पाकिस्तान
 - 4. भूटान

Question Type : MCQ
Question ID : 264330134716
Option 1 ID : 264330527819
Option 2 ID : 264330527822
Option 3 ID : 264330527821
Option 4 ID : 264330527820
Status : Answered
Chosen Option : 2

Q.5 निम्नलिखित में से किस पवन का संबंध अत्यधिक ठंड और शुष्कता से है?

- Ans
- 1. व्यापारिक पवनें
 - 2. पछुआ पवनें
 - 3. ध्रुवीय पूर्वी पवनें
 - 4. मानसूनी पवनें

Question Type : MCQ
Question ID : 264330134677
Option 1 ID : 264330527663
Option 2 ID : 264330527666
Option 3 ID : 264330527665
Option 4 ID : 264330527664
Status : Answered
Chosen Option : 3

Q.6 फर्न किस पादप वर्ग का एक उदाहरण है ?

- Ans
- 1. ब्रायोफ़ाइट (Bryophyta)
 - 2. फैनरोगैम (Phanerogams)
 - 3. टैरिडोफ़ाइट (Pteridophyta)
 - 4. थैलोफ़ाइट (Thallophyta)

Question Type : MCQ

Question ID : 264330134700

Option 1 ID : 264330527757

Option 2 ID : 264330527758

Option 3 ID : 264330527755

Option 4 ID : 264330527756

Status : Answered

Chosen Option : 1

Q.7 कौन-सा अम्ल आमाशय में प्रवेश करने वाले जीवाणुओं को नष्ट कर देता है?

- Ans
- 1. नाइट्रिक अम्ल
 - 2. बोरिक अम्ल
 - 3. हाइड्रोक्लोरिक अम्ल
 - 4. यूरिक अम्ल

Question Type : MCQ

Question ID : 264330134676

Option 1 ID : 264330527659

Option 2 ID : 264330527660

Option 3 ID : 264330527662

Option 4 ID : 264330527661

Status : Answered

Chosen Option : 3

Q.8 पद्मा सुब्रह्मण्यम (Padma Subrahmanyam) निम्नलिखित में से किस नृत्य शैली की प्रसिद्ध नृत्यांगना हैं?

- Ans
- 1. मणिपुरी
 - 2. कुचिपुडी
 - 3. भरतनाट्यम
 - 4. ओडिसी

Question Type : MCQ

Question ID : 264330134696

Option 1 ID : 264330527741

Option 2 ID : 264330527740

Option 3 ID : 264330527739

Option 4 ID : 264330527742

Status : Answered

Chosen Option : 3

Q.9 वी. सत्यनारायण सरमा को वर्ष 1970 में _____ नृत्य के क्षेत्र में उनके योगदान के लिए पद्म श्री से सम्मानित किया गया था।

- Ans
- 1. कथक
 - 2. मणिपुरी
 - 3. ओडिसी
 - 4. कुचिपुडी

Question Type : MCQ
Question ID : 264330138656
Option 1 ID : 264330543232
Option 2 ID : 264330543231
Option 3 ID : 264330543234
Option 4 ID : 264330543233
Status : Answered
Chosen Option : 1

Q.10 1895 में अन्य भारतीयों के साथ महात्मा गांधी ने नस्लीय भेदभाव का विरोध करने के लिए _____ का गठन किया था।

- Ans
- 1. साबरमती आश्रम (Sabarmati Ashram)
 - 2. देव समाज (Dev Samaj)
 - 3. ब्रह्म समाज (Brahmo Samaj)
 - 4. नेटाल कांग्रेस (Natal Congress)

Question Type : MCQ
Question ID : 264330138673
Option 1 ID : 264330543300
Option 2 ID : 264330543302
Option 3 ID : 264330543301
Option 4 ID : 264330543299
Status : Answered
Chosen Option : 4

Q.11 स्वर्ण सिंह समिति की सिफारिशों पर _____ संवैधानिक संशोधन अधिनियम, 1976 द्वारा संविधान के भाग IV-A में मौलिक कर्तव्यों को शामिल किया गया था।

- Ans
- 1. 42वें
 - 2. 35वें
 - 3. 51वें
 - 4. 47वें

Question Type : MCQ
Question ID : 264330134714
Option 1 ID : 264330527814
Option 2 ID : 264330527813
Option 3 ID : 264330527811
Option 4 ID : 264330527812
Status : Answered
Chosen Option : 1

Q.12 बैसाखी महोत्सव प्रमुख रूप से _____ और _____ राज्यों में मनाया जाता है।

- Ans
- 1. नगालैंड, त्रिपुरा
 - 2. पंजाब, हरियाणा
 - 3. राजस्थान, मध्यप्रदेश
 - 4. तमिलनाडु, केरल

Question Type : MCQ
Question ID : 264330138650
Option 1 ID : 264330543208
Option 2 ID : 264330543209
Option 3 ID : 264330543210
Option 4 ID : 264330543207
Status : Answered
Chosen Option : 2

Q.13 अंतर-राज्य परिषद में भारत के प्रधानमंत्री द्वारा मनोनीत केंद्रीय मंत्रिपरिषद में केंद्र के _____ मंत्री होते हैं।

- Ans
- 1. दो
 - 2. दस
 - 3. चार
 - 4. छः

Question Type : MCQ
Question ID : 264330134715
Option 1 ID : 264330527818
Option 2 ID : 264330527815
Option 3 ID : 264330527817
Option 4 ID : 264330527816
Status : Answered
Chosen Option : 1

Q.14 'इंडियाज स्ट्रगल फॉर इंडिपेंडेंस (India's Struggle for Independence)' _____ द्वारा लिखी गई उल्लेखनीय पुस्तकों में से एक है।

- Ans
- 1. आर.के. नारायण
 - 2. शेखर बंधोपाध्याय
 - 3. आर.सी. मजूमदार
 - 4. विपिन चंद्र

Question Type : MCQ
Question ID : 264330138654
Option 1 ID : 264330543223
Option 2 ID : 264330543226
Option 3 ID : 264330543224
Option 4 ID : 264330543225
Status : Answered
Chosen Option : 2

Q.15 केंद्रीय कृषि मंत्री नरेंद्र सिंह तोमर ने अक्टूबर 2022 में यह घोषणा की है कि केंद्र सरकार कृषि व्यवसायों के लाभकारी विचारों (productive ideas) का समर्थन करने के लिए _____ करोड़ का एक्सेलरेटर (accelerator) प्रोग्राम शुरू करेगी।

- Ans
- 1. Rs.300
 - 2. Rs.350
 - 3. Rs.500
 - 4. Rs.450

Question Type : MCQ

Question ID : 264330134694

Option 1 ID : 264330527732

Option 2 ID : 264330527731

Option 3 ID : 264330527734

Option 4 ID : 264330527733

Status : Not Answered

Chosen Option : --

Q.16 किस युद्ध के कारण विजयनगर साम्राज्य का पतन हुआ?

- Ans
- 1. आर्कोट का युद्ध
 - 2. हल्दीघाटी का युद्ध
 - 3. तालीकोटा का युद्ध
 - 4. रायचूर का युद्ध

Question Type : MCQ

Question ID : 264330134683

Option 1 ID : 264330527687

Option 2 ID : 264330527688

Option 3 ID : 264330527690

Option 4 ID : 264330527689

Status : Answered

Chosen Option : 3

Q.17 आरक्षित नकदी तिथि अनुपात मुद्रा आपूर्ति को नियंत्रित करने के लिए एक _____ साधन है।

I. गुणात्मक

II. परिमाणात्मक

- Ans
- 1. केवल II
 - 2. केवल I
 - 3. न तो I और न ही II
 - 4. I और II दोनों

Question Type : MCQ

Question ID : 264330138659

Option 1 ID : 264330543244

Option 2 ID : 264330543243

Option 3 ID : 264330543246

Option 4 ID : 264330543245

Status : Not Answered

Chosen Option : --

Q.18 निम्नलिखित में से किसे वर्ष 2001 में भारत रत्न से सम्मानित किया गया था और जिन्हें शहनाई को विवाह मंडप से कंसर्ट हॉल तक ले जाने का श्रेय भी ही दिया जाता है?

- Ans
- 1. अली अकबर खान
 - 2. हरिप्रसाद चौरसिया
 - 3. रवि शंकर
 - 4. बिस्मिल्लाह खान

Question Type : MCQ
Question ID : 264330134712
Option 1 ID : 264330527804
Option 2 ID : 264330527803
Option 3 ID : 264330527806
Option 4 ID : 264330527805
Status : Answered
Chosen Option : 4

Q.19 चन्द्रगुप्त मौर्य के दरबार में यूनानी राजा सेल्यूकस निकेटर (Seleucus Nicator) का राजदूत _____ था।

- Ans
- 1. हेरोडोटस (Herodotus)
 - 2. स्ट्रैबो (Strabo)
 - 3. होमर (Homer)
 - 4. मेगस्थनीज़ (Megasthenes)

Question Type : MCQ
Question ID : 264330138670
Option 1 ID : 264330543290
Option 2 ID : 264330543287
Option 3 ID : 264330543288
Option 4 ID : 264330543289
Status : Answered
Chosen Option : 4

Q.20 Hindustan Aeronautics limited comes under which sector?

- Ans
- 1. Private sector
 - 2. Foreign sector
 - 3. Public sector
 - 4. Co-operative sector

Question Type : MCQ
Question ID : 264330138666
Option 1 ID : 264330543271
Option 2 ID : 264330543273
Option 3 ID : 264330543272
Option 4 ID : 264330543274
Status : Answered
Chosen Option : 3

Q.21 नेपाल भारत के निम्नलिखित में से किस राज्य के साथ अपनी सीमा साझा नहीं करता है?

- Ans
- 1. पश्चिम बंगाल
 - 2. सिक्किम
 - 3. बिहार
 - 4. मणिपुर

Question Type : MCQ

Question ID : 264330137931

Option 1 ID : 264330540332

Option 2 ID : 264330540333

Option 3 ID : 264330540331

Option 4 ID : 264330540334

Status : Answered

Chosen Option : 4

Q.22 कोनेरू हंपी (Koneru Humpy) निम्नलिखित में से किस खेल से संबंधित हैं?

- Ans
- 1. शतरंज
 - 2. क्रिकेट
 - 3. मुक्केबाज़ी
 - 4. बैडमिंटन

Question Type : MCQ

Question ID : 264330134692

Option 1 ID : 264330527726

Option 2 ID : 264330527724

Option 3 ID : 264330527725

Option 4 ID : 264330527723

Status : Answered

Chosen Option : 1

Q.23 निम्न में से कौन-सी भारतीय प्रायद्वीप की तीसरी सबसे बड़ी और उड़ीसा राज्य की सबसे बड़ी नदी है?

- Ans
- 1. महानदी
 - 2. गोदावरी
 - 3. कृष्णा
 - 4. नर्मदा

Question Type : MCQ

Question ID : 264330134704

Option 1 ID : 264330527773

Option 2 ID : 264330527771

Option 3 ID : 264330527774

Option 4 ID : 264330527772

Status : Answered

Chosen Option : 1

Q.24 महाबलीपुरम स्मारक _____ वंश स्थापत्यकला शैली में बनाए गए थे।

- Ans
- 1. चंदेल
 - 2. पाली
 - 3. पल्लव
 - 4. गुप्त

Question Type : MCQ
Question ID : 264330137065
Option 1 ID : 264330536903
Option 2 ID : 264330536906
Option 3 ID : 264330536904
Option 4 ID : 264330536905
Status : Answered
Chosen Option : 3

Q.25 न्यूटन के गति के प्रथम नियम को _____ भी कहते हैं।

- Ans
- 1. परिमाण का नियम (Law of magnitude)
 - 2. प्रतिक्रिया का नियम (Law of reaction)
 - 3. जड़ता का नियम (Law of Inertia)
 - 4. द्रव्यमान का नियम (Law of masses)

Question Type : MCQ
Question ID : 264330134674
Option 1 ID : 264330527653
Option 2 ID : 264330527654
Option 3 ID : 264330527651
Option 4 ID : 264330527652
Status : Answered
Chosen Option : 3

Section : English Language and Comprehension

Q.1 Find the part of the given sentence that has an error in it. If there is no error, choose 'No error'.

Soap removes traces of pesticides and heavy metals that hand sanitizers can left behind.

- Ans
- 1. and heavy metals that hand
 - 2. Soap removes traces of pesticides
 - 3. No error
 - 4. sanitizers can left behind.

Question Type : MCQ
Question ID : 264330134825
Option 1 ID : 264330528240
Option 2 ID : 264330528239
Option 3 ID : 264330528242
Option 4 ID : 264330528241
Status : Not Answered
Chosen Option : --

Q.2 Choose the word that can substitute the given group of words.

A sound that cannot be heard

- Ans
- 1. Delible
 - 2. Autonomous
 - 3. Inaudible
 - 4. Audacious

Question Type : MCQ
Question ID : 264330134811
Option 1 ID : 264330528185
Option 2 ID : 264330528184
Option 3 ID : 264330528186
Option 4 ID : 264330528183
Status : Answered
Chosen Option : 3

Q.3 A sentence has been given with a blank to be filled with an appropriate option. Choose the correct alternative.

Potato milk is _____ another option for those wanting an alternative to cow's milk.

- Ans
- 1. yet
 - 2. so
 - 3. but
 - 4. though

Question Type : MCQ
Question ID : 264330136828
Option 1 ID : 264330536007
Option 2 ID : 264330536009
Option 3 ID : 264330536008
Option 4 ID : 264330536010
Status : Answered
Chosen Option : 1

Q.4 Select the appropriate antonym for the underlined word.

Social justice has been one of the cherished goals of the makers of our Constitution.

- Ans
- 1. relished
 - 2. valued
 - 3. despised
 - 4. treasured

Question Type : MCQ
Question ID : 264330134842
Option 1 ID : 264330528304
Option 2 ID : 264330528305
Option 3 ID : 264330528303
Option 4 ID : 264330528306
Status : Answered
Chosen Option : 3

Q.5 Choose the word that can substitute the given group of words.

Something that is necessary or crucial

- Ans**
- 1. Trivial
 - 2. Indispensable
 - 3. Auxiliary
 - 4. Pedantic

Question Type : **MCQ**
Question ID : **264330134838**
Option 1 ID : **264330528287**
Option 2 ID : **264330528290**
Option 3 ID : **264330528288**
Option 4 ID : **264330528289**
Status : **Answered**
Chosen Option : **2**

Q.6 Identify the segment that contains a grammatical error. If there is no error, select 'No error'

The police released a statement saying/, "This was one of the most vicious/ attack we have ever seen."

- Ans**
- 1. No error
 - 2. "This was one of the most vicious
 - 3. attack we have ever seen."
 - 4. The police released a statement saying,

Question Type : **MCQ**
Question ID : **264330136292**
Option 1 ID : **264330533950**
Option 2 ID : **264330533948**
Option 3 ID : **264330533949**
Option 4 ID : **264330533947**
Status : **Answered**
Chosen Option : **3**

Q.7 Choose the incorrectly spelt word.

- Ans**
- 1. Monitour
 - 2. Chemical
 - 3. Constant
 - 4. Slope

Question Type : **MCQ**
Question ID : **264330134845**
Option 1 ID : **264330528317**
Option 2 ID : **264330528315**
Option 3 ID : **264330528318**
Option 4 ID : **264330528316**
Status : **Answered**
Chosen Option : **1**

Q.8 Select the most appropriate option to fill in the blank.

His father was killed in a _____, when the boy was nine years old.

- Ans
- 1. duel
 - 2. drool
 - 3. dual
 - 4. dwell

Question Type : MCQ
Question ID : 264330136793
Option 1 ID : 264330535872
Option 2 ID : 264330535874
Option 3 ID : 264330535871
Option 4 ID : 264330535873
Status : Answered
Chosen Option : 4

Q.9 Improve the underlined part of the sentence. Choose 'No improvement' as an answer if the sentence is grammatically correct.

After the concert, his voice has hoarse from cheering.

- Ans
- 1. voice were
 - 2. voice was
 - 3. voiced was
 - 4. No improvement

Question Type : MCQ
Question ID : 264330134479
Option 1 ID : 264330526885
Option 2 ID : 264330526884
Option 3 ID : 264330526883
Option 4 ID : 264330526886
Status : Answered
Chosen Option : 2

Q.10 Select the appropriate synonym for the underlined word.

There is no need to panic, not yet.

- Ans
- 1. mock
 - 2. cheer
 - 3. block
 - 4. fright

Question Type : MCQ
Question ID : 264330134839
Option 1 ID : 264330528292
Option 2 ID : 264330528294
Option 3 ID : 264330528291
Option 4 ID : 264330528293
Status : Answered
Chosen Option : 4

Q.11 Choose the sentence with no spelling error.

- Ans**
- 1. And he wanted to sea him sufer.
 - 2. And he wanted to see him suffer.
 - 3. And he wanted to see him suffer.
 - 4. And he wanted to see him sufer.

Question Type : **MCQ**
Question ID : **264330136792**
Option 1 ID : **264330535868**
Option 2 ID : **264330535867**
Option 3 ID : **264330535869**
Option 4 ID : **264330535870**
Status : **Answered**
Chosen Option : **3**

Q.12 Find the part of the given sentence that has an error in it. If there is no error, choose 'No error'.

Why is your friend giving me weird looks?

- Ans**
- 1. No error
 - 2. giving me
 - 3. Why is your friend
 - 4. weird looks?

Question Type : **MCQ**
Question ID : **264330134719**
Option 1 ID : **264330527834**
Option 2 ID : **264330527832**
Option 3 ID : **264330527831**
Option 4 ID : **264330527833**
Status : **Answered**
Chosen Option : **1**

Q.13 A sentence has been given with a blank to be filled with an appropriate option. Choose the correct alternative.

She had no _____ of telling him the truth.

- Ans**
- 1. intents
 - 2. intending
 - 3. intended
 - 4. intention

Question Type : **MCQ**
Question ID : **264330134829**
Option 1 ID : **264330528257**
Option 2 ID : **264330528258**
Option 3 ID : **264330528255**
Option 4 ID : **264330528256**
Status : **Answered**
Chosen Option : **4**

Q.14 In the following question, out of the given four alternatives, select the alternative which best expresses the meaning of the Idiom/Phrase.

To make one's mouth water

- Ans**
- 1. To make faces
 - 2. To feel no pain
 - 3. Feel hungry
 - 4. To tremble with fear

Question Type : **MCQ**
Question ID : **264330134817**
Option 1 ID : **264330528207**
Option 2 ID : **264330528209**
Option 3 ID : **264330528210**
Option 4 ID : **264330528208**
Status : **Answered**
Chosen Option : **4**

Q.15 Select the most appropriate antonym of the given word.

Misunderstand

- Ans**
- 1. Impossible
 - 2. Delayed
 - 3. Comprehend
 - 4. Sluggish

Question Type : **MCQ**
Question ID : **264330135785**
Option 1 ID : **264330532018**
Option 2 ID : **264330532016**
Option 3 ID : **264330532017**
Option 4 ID : **264330532015**
Status : **Answered**
Chosen Option : **3**

Q.16 Select the most appropriate option to substitute the bracketed segment in the given sentence. If there is no need to substitute it, select 'no substitution required'.

This looks (like one of those unwelcome social summons which call upon a man) either to be bored or to lie.

- Ans**
- 1. No substitution required
 - 2. like one of these unwelcome social summons that call upon a man
 - 3. like one of those unwelcome social summon that call upon a man
 - 4. like one of those unwelcome social summonses which call upon a man

Question Type : **MCQ**
Question ID : **264330136295**
Option 1 ID : **264330533962**
Option 2 ID : **264330533959**
Option 3 ID : **264330533961**
Option 4 ID : **264330533960**
Status : **Answered**
Chosen Option : **2**

Q.17 Select the most appropriate option to fill in the blank.

Each band is known across a wide area because all residents of a given region are typically tied to one another through a large _____ of kinship and reciprocity

- Ans**
- 1. variation
 - 2. network
 - 3. clash
 - 4. mesh

Question Type : **MCQ**
Question ID : **264330134848**
Option 1 ID : **264330528329**
Option 2 ID : **264330528330**
Option 3 ID : **264330528327**
Option 4 ID : **264330528328**
Status : **Answered**
Chosen Option : **2**

Q.18 Choose the word that means the same as the given word.

Wage

- Ans**
- 1. Sycophant
 - 2. Emolument
 - 3. Jackpot
 - 4. Jocular

Question Type : **MCQ**
Question ID : **264330136812**
Option 1 ID : **264330535945**
Option 2 ID : **264330535946**
Option 3 ID : **264330535944**
Option 4 ID : **264330535943**
Status : **Not Answered**
Chosen Option : **--**

Q.19 In the following question, out of the given four alternatives, select the alternative which best expresses the meaning of the Idiom/Phrase.

To turn over a new leaf

- Ans**
- 1. To have an inclination towards gardening
 - 2. To turn your back on someone
 - 3. To make a fresh start
 - 4. To reply brazenly

Question Type : **MCQ**
Question ID : **264330134844**
Option 1 ID : **264330528312**
Option 2 ID : **264330528313**
Option 3 ID : **264330528311**
Option 4 ID : **264330528314**
Status : **Answered**
Chosen Option : **3**

Q.20 Improve the underlined part of the sentence. Choose 'No improvement' as an answer if the sentence is grammatically correct.

When I was eight years old, I used to played with toys.

- Ans**
- 1. used to play
 - 2. use to played
 - 3. No improvement
 - 4. used to playing

Question Type : **MCQ**

Question ID : **264330135183**

Option 1 ID : **264330529664**

Option 2 ID : **264330529665**

Option 3 ID : **264330529666**

Option 4 ID : **264330529663**

Status : **Answered**

Chosen Option : **3**

Comprehension:

In the following passage some words have been deleted. Fill in the blanks with the help of the alternatives given. Select the most appropriate option for each number.

To mark the 25th anniversary of the run, (1) _____ Royal Canadian Mint unveiled a one-dollar commemorative circulation coin (2) _____ Monday on the campus of Simon Fraser University. Fox was (3) _____ undergraduate student and basketball player at SFU when a malignant tumour was discovered in his right leg in 1977. It resulted in (4) _____. A bronze statue of Fox, one of many such tributes across Canada, looks over the academic quadrangle of the university, just a short stroll from the theatre where Monday's (5) _____ was held.

SubQuestion No : 21

Q.21 Select the most appropriate option to fill in the blank No. 1

- Ans**
- 1. a
 - 2. in
 - 3. the
 - 4. of

Question Type : **MCQ**

Question ID : **264330135776**

Option 1 ID : **264330531979**

Option 2 ID : **264330531982**

Option 3 ID : **264330531980**

Option 4 ID : **264330531981**

Status : **Answered**

Chosen Option : **1**

Comprehension:

In the following passage some words have been deleted. Fill in the blanks with the help of the alternatives given. Select the most appropriate option for each number.

To mark the 25th anniversary of the run, (1) _____ Royal Canadian Mint unveiled a one-dollar commemorative circulation coin (2) _____ Monday on the campus of Simon Fraser University. Fox was (3) _____ undergraduate student and basketball player at SFU when a malignant tumour was discovered in his right leg in 1977. It resulted in (4) _____. A bronze statue of Fox, one of many such tributes across Canada, looks over the academic quadrangle of the university, just a short stroll from the theatre where Monday's (5) _____ was held.

SubQuestion No : 22

Q.22 Select the most appropriate option to fill in the blank No. 2 .

- Ans**
- 1. through
 - 2. on
 - 3. at
 - 4. over

Question Type : **MCQ**
Question ID : **264330135777**
Option 1 ID : **264330531983**
Option 2 ID : **264330531985**
Option 3 ID : **264330531986**
Option 4 ID : **264330531984**
Status : **Answered**
Chosen Option : **2**

Comprehension:

In the following passage some words have been deleted. Fill in the blanks with the help of the alternatives given. Select the most appropriate option for each number.

To mark the 25th anniversary of the run, (1) _____ Royal Canadian Mint unveiled a one-dollar commemorative circulation coin (2) _____ Monday on the campus of Simon Fraser University. Fox was (3) _____ undergraduate student and basketball player at SFU when a malignant tumour was discovered in his right leg in 1977. It resulted in (4) _____. A bronze statue of Fox, one of many such tributes across Canada, looks over the academic quadrangle of the university, just a short stroll from the theatre where Monday's (5) _____ was held.

SubQuestion No : 23

Q.23 Select the most appropriate option to fill in the blank No. 3.

- Ans**
- 1. the
 - 2. a
 - 3. an
 - 4. their

Question Type : **MCQ**
Question ID : **264330135778**
Option 1 ID : **264330531990**
Option 2 ID : **264330531988**
Option 3 ID : **264330531989**
Option 4 ID : **264330531987**
Status : **Answered**
Chosen Option : **3**

Comprehension:

In the following passage some words have been deleted. Fill in the blanks with the help of the alternatives given. Select the most appropriate option for each number.

To mark the 25th anniversary of the run, (1) _____ Royal Canadian Mint unveiled a one-dollar commemorative circulation coin (2) _____ Monday on the campus of Simon Fraser University. Fox was (3) _____ undergraduate student and basketball player at SFU when a malignant tumour was discovered in his right leg in 1977. It resulted in (4) _____. A bronze statue of Fox, one of many such tributes across Canada, looks over the academic quadrangle of the university, just a short stroll from the theatre where Monday's (5) _____ was held.

SubQuestion No : 24

Q.24 Select the most appropriate option to fill in the blank No. 4.

- Ans**
- 1. implantation
 - 2. vasodilation
 - 3. fragmentation
 - 4. amputation

Question Type : **MCQ**
Question ID : **264330135779**
Option 1 ID : **264330531991**
Option 2 ID : **264330531993**
Option 3 ID : **264330531992**
Option 4 ID : **264330531994**
Status : **Not Answered**
Chosen Option : --

Comprehension:

In the following passage some words have been deleted. Fill in the blanks with the help of the alternatives given. Select the most appropriate option for each number.

To mark the 25th anniversary of the run, (1) _____ Royal Canadian Mint unveiled a one-dollar commemorative circulation coin (2) _____ Monday on the campus of Simon Fraser University. Fox was (3) _____ undergraduate student and basketball player at SFU when a malignant tumour was discovered in his right leg in 1977. It resulted in (4) _____. A bronze statue of Fox, one of many such tributes across Canada, looks over the academic quadrangle of the university, just a short stroll from the theatre where Monday's (5) _____ was held.

SubQuestion No : 25

Q.25 Select the most appropriate option to fill in the blank No. 5.

- Ans**
- 1. countervailing
 - 2. unveiling
 - 3. reconciling
 - 4. veiling

Question Type : **MCQ**
Question ID : **264330135780**
Option 1 ID : **264330531997**
Option 2 ID : **264330531996**
Option 3 ID : **264330531998**
Option 4 ID : **264330531995**
Status : **Not Answered**
Chosen Option : --

Multi Tasking Non Technical Staff and Havaladar CBIC and CBN Examination 2022

Roll Number	KD Job Updates
Candidate Name	KD Job Updates
Venue Name	iON Digital Zone iDZ 2 Patliputra
Exam Date	04/05/2023
Exam Time	9:00 AM - 10:30 AM
Subject	MTS Non Tech Havaladar CBIC and CBN Examination 2022

Section : Numerical and Mathematical Ability

Q.1 Rs. 28500 की धनराशि 6.4% वार्षिक साधारण ब्याज पर 10 वर्षों के लिए ऋण पर दी जाती है। 10 वर्षों के बाद यह धनराशि कितनी होगी?

- Ans
- 1. Rs. 32480
 - 2. Rs. 285000
 - 3. Rs. 40290
 - 4. Rs. 46740

Question Type : MCQ

Question ID : 264330133806

Option 1 ID : 264330524249

Option 2 ID : 264330524247

Option 3 ID : 264330524250

Option 4 ID : 264330524248

Status : Answered

Chosen Option : 4

Q.2 तीन धावकों की चाल का अनुपात 3 : 2 : 4 है। तीन धावकों द्वारा समान दूरी तय करने में लिए गए समय का क्रमशः अनुपात क्या है?

- Ans
- 1. 4 : 6 : 3
 - 2. 4 : 8 : 5
 - 3. 10 : 8 : 3
 - 4. 6 : 8 : 9

Question Type : MCQ

Question ID : 264330137653

Option 1 ID : 264330539222

Option 2 ID : 264330539219

Option 3 ID : 264330539220

Option 4 ID : 264330539221

Status : Answered

Chosen Option : 1

Q.3 24 संख्याओं का औसत 43 है। यदि हम प्रत्येक संख्या में से एक संख्या 'M' घटाते हैं, तो औसत 38 हो जाता है। M का मान क्या था?

- Ans
- 1. 12
 - 2. 5
 - 3. 7
 - 4. 10

Question Type : MCQ
Question ID : 264330137648
Option 1 ID : 264330539199
Option 2 ID : 264330539202
Option 3 ID : 264330539201
Option 4 ID : 264330539200
Status : Answered
Chosen Option : 2

Q.4 एक पार्टी हॉल में, लोग नीले और लाल परिधानों में हैं। नीले परिधानों में पुरुषों की संख्या और लाल परिधानों में महिलाओं की संख्या का अनुपात 3 : 7 है। लाल परिधानों में पुरुषों की संख्या और नीले परिधानों में महिलाओं की संख्या का अनुपात 2 : 1 है। यदि नीले परिधानों में लोगों की संख्या और लाल परिधानों में लोगों की संख्या का अनुपात 35 : 76 है, तो पुरुषों की संख्या और महिलाओं की संख्या का अनुपात कितना है?

- Ans
- 1. 62 : 57
 - 2. 47 : 51
 - 3. 52 : 59
 - 4. 40 : 43

Question Type : MCQ
Question ID : 264330137654
Option 1 ID : 264330539224
Option 2 ID : 264330539226
Option 3 ID : 264330539225
Option 4 ID : 264330539223
Status : Not Answered
Chosen Option : --

Q.5 पाइप A और B मिलकर एक टंकी को 10 घंटे में भर सकते हैं। पाइप B और C मिलकर उसी टंकी को 12 घंटे में भर सकते हैं। पाइप A और C मिलकर उसी टंकी को 15 घंटे में भर सकते हैं। पाइप B अकेले उसी टंकी को कितने घंटे में भर सकता है?

- Ans
- 1. 125/11 घंटे
 - 2. 15 घंटे
 - 3. 120/7 घंटे
 - 4. 155/13 घंटे

Question Type : MCQ
Question ID : 264330137624
Option 1 ID : 264330539104
Option 2 ID : 264330539103
Option 3 ID : 264330539105
Option 4 ID : 264330539106
Status : Answered
Chosen Option : 3

Q.6 $\left(\frac{1}{5}\right) + \left[1\frac{1}{4} - \frac{1}{2}\right] \times \left(\frac{2}{5}\right)$ का मान निम्न में से किस के बीच में स्थित है?

- Ans
- 1. 1.5 और 1.8
 - 2. 2.1 और 2.4
 - 3. 0.2 और 0.6
 - 4. 0.8 और 1.2

Question Type : MCQ

Question ID : 264330133837

Option 1 ID : 264330524373

Option 2 ID : 264330524374

Option 3 ID : 264330524371

Option 4 ID : 264330524372

Status : Answered

Chosen Option : 3

Q.7 मान लीजिए कि एक थैले में 2 kg चीनी और 3 kg नमक है। थैले में कुल मात्रा का कितने प्रतिशत भाग चीनी से भरा है?

- Ans
- 1. 35 %
 - 2. 30 %
 - 3. 40 %
 - 4. 50 %

Question Type : MCQ

Question ID : 264330135092

Option 1 ID : 264330529305

Option 2 ID : 264330529306

Option 3 ID : 264330529304

Option 4 ID : 264330529303

Status : Answered

Chosen Option : 3

Q.8 330 मीटर लंबी एक रेलगाड़ी 550 मीटर लंबे पुल को पार करने में 11 सेकंड का समय लेती है। रेलगाड़ी 570 मीटर लंबे पुल को पार करने में कितना समय लेगी?

- Ans
- 1. 20 सेकंड
 - 2. $(45/4)$ सेकंड
 - 3. $(47/4)$ सेकंड
 - 4. 16 सेकंड

Question Type : MCQ

Question ID : 264330137647

Option 1 ID : 264330539195

Option 2 ID : 264330539196

Option 3 ID : 264330539197

Option 4 ID : 264330539198

Status : Answered

Chosen Option : 2

Q.9 एक त्रिभुज की भुजाओं का अनुपात 11 : 11 : 4 है। यदि त्रिभुज का क्षेत्रफल $2\sqrt{117}$ cm² है, तो बराबर भुजाओं की लंबाई कितनी है?

- Ans 1. 11 cm
 2. 9 cm
 3. 13 cm
 4. 3 cm

Question Type : MCQ

Question ID : 264330137639

Option 1 ID : 264330539166

Option 2 ID : 264330539163

Option 3 ID : 264330539164

Option 4 ID : 264330539165

Status : Answered

Chosen Option : 1

Q.10 अंकित मूल्य का 30 प्रतिशत क्रय मूल्य के 50 प्रतिशत के बराबर है। यदि कोई बड़ा नहीं दिया जाता है, तो लाभ प्रतिशत क्या होगा?

- Ans 1. 66.67 प्रतिशत
 2. 50 प्रतिशत
 3. 33.33 प्रतिशत
 4. 52.5 प्रतिशत

Question Type : MCQ

Question ID : 264330137657

Option 1 ID : 264330539236

Option 2 ID : 264330539237

Option 3 ID : 264330539235

Option 4 ID : 264330539238

Status : Answered

Chosen Option : 1

Q.11 उस त्रिभुज का क्षेत्रफल ज्ञात कीजिए जिसका आधार 34 cm है और संगत ऊँचाई 22 cm है।

- Ans 1. 378 cm²
 2. 453 cm²
 3. 374 cm²
 4. 234 cm²

Question Type : MCQ

Question ID : 264330133754

Option 1 ID : 264330524040

Option 2 ID : 264330524041

Option 3 ID : 264330524039

Option 4 ID : 264330524042

Status : Answered

Chosen Option : 3

Q.12 अनिल अकेले किसी कार्य को पूरा करने में 2 घंटे 40 मिनट का समय लेता है और सुमित अकेले उसी कार्य को अनिल से आधे समय में पूरा कर सकता है। कार्य को पूरा करने में सुमित को कितना समय लगेगा?

- Ans
- ✓ 1. 80 मिनट
 - ✗ 2. 70 मिनट
 - ✗ 3. 75 मिनट
 - ✗ 4. 90 मिनट

Question Type : MCQ
Question ID : 264330133749
Option 1 ID : 264330524021
Option 2 ID : 264330524019
Option 3 ID : 264330524020
Option 4 ID : 264330524022
Status : Answered
Chosen Option : 1

Q.13 राम और रहीम की औसत आयु 10 वर्ष है। रहीम और रमेश की औसत आयु 15 वर्ष है। राम और रमेश की औसत आयु 20 वर्ष है। इन तीनों में सबसे बड़े व्यक्ति की आयु कितनी है?

- Ans
- ✗ 1. 15 वर्ष
 - ✗ 2. 10 वर्ष
 - ✓ 3. 25 वर्ष
 - ✗ 4. 30 वर्ष

Question Type : MCQ
Question ID : 264330137135
Option 1 ID : 264330537185
Option 2 ID : 264330537183
Option 3 ID : 264330537184
Option 4 ID : 264330537186
Status : Answered
Chosen Option : 3

Q.14 P, Q को एक खिलौना 40 प्रतिशत के लाभ पर बेचता है और Q इसे R को 10 प्रतिशत के लाभ पर बेचता है। यदि R खिलौने के लिए Rs.539 का भुगतान करता है, तो P के लिए खिलौने का क्रय मूल्य क्या था?

- Ans
- ✗ 1. Rs. 400
 - ✗ 2. Rs. 300
 - ✗ 3. Rs. 450
 - ✓ 4. Rs. 350

Question Type : MCQ
Question ID : 264330137652
Option 1 ID : 264330539216
Option 2 ID : 264330539217
Option 3 ID : 264330539218
Option 4 ID : 264330539215
Status : Answered
Chosen Option : 4

Q.15 Rs. 12,600 पर 2 वर्ष के लिए 10% वार्षिक दर पर वार्षिक रूप से संयोजित चक्रवृद्धि ब्याज (CI) ज्ञात कीजिए।

- Ans
- 1. Rs. 3146
 - 2. Rs. 3646
 - 3. Rs. 2645
 - 4. Rs. 2646

Question Type : MCQ

Question ID : 264330135099

Option 1 ID : 264330529333

Option 2 ID : 264330529334

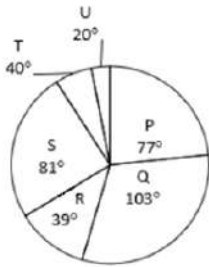
Option 3 ID : 264330529332

Option 4 ID : 264330529331

Status : Answered

Chosen Option : 4

Q.16 नीचे दिए गए वृत्त आलेख में 6 अलग-अलग कंपनियों में कर्मचारियों की संख्या को दर्शाया गया है। इन सभी 6 कंपनियों में कर्मचारियों की कुल संख्या 15840 है। इनमें से किसी एक विशिष्ट कंपनी में कर्मचारियों की संख्या को इन सभी 6 कंपनियों में कर्मचारियों की कुल संख्या के सापेक्ष डिग्री में दर्शाया गया है।



J1 = P, Q, S, T और U में कर्मचारियों की कुल संख्या।

J2 = P और Q में कर्मचारियों की कुल संख्या और T और U में कर्मचारियों की कुल संख्या के बीच का अंतर।

(J1 + J2) का मान क्या है?

- Ans
- 1. 19404
 - 2. 16302
 - 3. 12804
 - 4. 6600

Question Type : MCQ

Question ID : 264330137664

Option 1 ID : 264330539264

Option 2 ID : 264330539263

Option 3 ID : 264330539265

Option 4 ID : 264330539266

Status : Answered

Chosen Option : 1

Q.17 वह सबसे छोटी संख्या कौनसी है जिसे 478 में जोड़ा जाना चाहिए ताकि प्राप्त संख्या 5, 6 और 12 से पूर्णतः विभाज्य हो जाए?

- Ans
- 1. 12
 - 2. 52
 - 3. 2
 - 4. 62

Question Type : MCQ

Question ID : 264330137660

Option 1 ID : 264330539248

Option 2 ID : 264330539249

Option 3 ID : 264330539247

Option 4 ID : 264330539250

Status : Answered

Chosen Option : 3

Q.18 $\frac{3}{4}$, $\frac{15}{16}$ और $\frac{18}{5}$ का महत्तम समापवर्तक (HCF) है:

- Ans
- 1. $\frac{5}{16}$
 - 2. $\frac{15}{16}$
 - 3. $\frac{18}{5}$
 - 4. $\frac{3}{80}$

Question Type : MCQ

Question ID : 264330141026

Option 1 ID : 264330552453

Option 2 ID : 264330552451

Option 3 ID : 264330552454

Option 4 ID : 264330552452

Status : Answered

Chosen Option : 4

Q.19 निम्नलिखित तालिका में वर्ष 2018 और 2019 में एक परिवार के व्यय को दर्शाया गया है।

वर्ष 2018 से 2019 में कुल व्यय में कितने प्रतिशत की वृद्धि या कमी हुई है?

Articles	Expenditure(in Rs.)	
	2018	2019
Education	24000	30000
Housing	40000	48000
Entertainment	4000	3600
Food	15000	15500
Clothing	5600	3800

Expenditure (in Rs.) = व्यय (Rs. में)

Articles = प्रयोजन, Education = शिक्षा, Housing = आवासन, Entertainment = मनोरंजन, Food = भोजन,
Clothing = कपड़े

- Ans
- ✗ 1. 20.33% की वृद्धि
 - ✗ 2. 12.11% की कमी
 - ✓ 3. 13.88% की वृद्धि
 - ✗ 4. 11.44% की कमी

Question Type : MCQ

Question ID : 264330133851

Option 1 ID : 264330524428

Option 2 ID : 264330524427

Option 3 ID : 264330524429

Option 4 ID : 264330524430

Status : Answered

Chosen Option : 3

Q.20 एक मेज को Rs. 2450 में खरीदा जाता है और फिर Rs. 2940 में बेच दिया जाता है। लाभ प्रतिशत ज्ञात कीजिए।

- Ans
- ✗ 1. 10%
 - ✗ 2. 22%
 - ✓ 3. 20%
 - ✗ 4. 12%

Question Type : MCQ

Question ID : 264330138441

Option 1 ID : 264330542374

Option 2 ID : 264330542372

Option 3 ID : 264330542373

Option 4 ID : 264330542371

Status : Answered

Chosen Option : 2

Q.1 सात छात्र P, Q, R, S, T, U, और V कक्षा में शीर्ष रैंक प्राप्त करने वाले छात्र हैं। कोई भी दो छात्रों को समान रैंक नहीं मिली है। सबसे अधिक अंक वाले छात्र को प्रथम रैंक दी गई है और सबसे कम अंक वाले छात्र को सातवीं रैंक मिली है। Q को R से कम लेकिन T से अधिक अंक मिले हैं। V को S से अधिक अंक मिले हैं। U को P से अधिक लेकिन S से कम अंक मिले हैं। Q को दूसरे स्थान पर सबसे कम रैंक मिली है और S को दूसरे स्थान पर सबसे अधिक रैंक मिली है। R को P से कम अंक मिले हैं। किस छात्र को सबसे कम अंक मिले हैं?

- Ans
- 1. P
 - 2. R
 - 3. T
 - 4. U

Question Type : MCQ
Question ID : 264330137569
Option 1 ID : 264330538884
Option 2 ID : 264330538885
Option 3 ID : 264330538886
Option 4 ID : 264330538883
Status : Answered
Chosen Option : 3

Q.2 उस विकल्प को चुनिए जो तीसरी संख्या से ठीक उसी तरह संबंधित है जिस तरह दूसरी संख्या पहली संख्या से संबंधित है।
23 : 168 :: 16 : ?

- Ans
- 1. 119
 - 2. 180
 - 3. 64
 - 4. 256

Question Type : MCQ
Question ID : 264330134991
Option 1 ID : 264330528899
Option 2 ID : 264330528902
Option 3 ID : 264330528901
Option 4 ID : 264330528900
Status : Answered
Chosen Option : 1

Q.3 एक लिखित कूट भाषा में, 'SHOULD' को 'AIRLEP' लिखा जाता है। उस कूट भाषा में 'WIDELY' को कैसे लिखा जाएगा?

- Ans
- 1. VIBAGT
 - 2. VICBFT
 - 3. VIBAFU
 - 4. VIBAFT

Question Type : MCQ
Question ID : 264330138609
Option 1 ID : 264330543045
Option 2 ID : 264330543043
Option 3 ID : 264330543044
Option 4 ID : 264330543046
Status : Not Answered
Chosen Option : --

Q.4 दी गई श्रृंखला में निम्नलिखित में से कौन-सा अक्षर प्रश्न चिन्ह (?) के स्थान पर आएगा?
L, N, P, R, T, V, ?

- Ans 1. X
 2. V
 3. N
 4. F

Question Type : MCQ

Question ID : 264330137559

Option 1 ID : 264330538846

Option 2 ID : 264330538843

Option 3 ID : 264330538844

Option 4 ID : 264330538845

Status : Answered

Chosen Option : 1

Q.5 दी गई श्रृंखला में निम्नलिखित में से कौन-सी संख्या प्रश्न चिन्ह (?) के स्थान पर आएगी?
153, 158, 151, 156, 149, 154, 147, ?

- Ans 1. 152
 2. 156
 3. 159
 4. 144

Question Type : MCQ

Question ID : 264330134989

Option 1 ID : 264330528894

Option 2 ID : 264330528892

Option 3 ID : 264330528893

Option 4 ID : 264330528891

Status : Answered

Chosen Option : 1

Q.6 पाँच व्यक्ति एक बेंच पर उत्तर की ओर मुख करके बैठे हैं। S, R के ठीक बाएँ पर है और B के ठीक दाएँ पर है। M, R के दाएँ पर है। T, R और M के बीच में है। T के ठीक दाएँ पर कौन बैठा है?

- Ans 1. M
 2. B
 3. S
 4. R

Question Type : MCQ

Question ID : 264330137567

Option 1 ID : 264330538878

Option 2 ID : 264330538875

Option 3 ID : 264330538876

Option 4 ID : 264330538877

Status : Answered

Chosen Option : 1

Q.7 दिए गए पैटर्न का ध्यानपूर्वक अध्ययन कीजिए और उस संख्या को चुनिए जो इसमें प्रश्न चिन्ह (?) के स्थान पर आ सकती है।
पहली पंक्ति- 82, 91, 100
दूसरी पंक्ति- 63, 72, 81
तीसरी पंक्ति- 24, 33, ?

- Ans**
- 1. 56
 - 2. 34
 - 3. 48
 - 4. 42

Question Type : **MCQ**

Question ID : **264330137575**

Option 1 ID : **264330538909**

Option 2 ID : **264330538908**

Option 3 ID : **264330538910**

Option 4 ID : **264330538907**

Status : **Answered**

Chosen Option : **4**

Q.8 दो कथन दिए गए हैं और दो निष्कर्ष I और II दिए गए हैं। कथनों को सत्य मानते हुए, चाहे वे सामान्यतः ज्ञात तथ्यों से अलग प्रतीत होते हों, निश्चय कीजिए कि कौन-सा निष्कर्ष तार्किक रूप से कथनों के अनुसार है।

कथन:

सभी बैग, काले हैं।

कुछ बैग, सफेद हैं।

निष्कर्ष:

I. कुछ काले, सफेद हैं।

II. सभी काले, बैग हैं।

- Ans**
- 1. केवल निष्कर्ष II कथनों के अनुसार है
 - 2. केवल निष्कर्ष I कथनों के अनुसार है
 - 3. दोनों निष्कर्ष I और II कथनों के अनुसार हैं
 - 4. न तो निष्कर्ष I और न ही II कथनों के अनुसार है

Question Type : **MCQ**

Question ID : **264330137570**

Option 1 ID : **264330538888**

Option 2 ID : **264330538887**

Option 3 ID : **264330538889**

Option 4 ID : **264330538890**

Status : **Answered**

Chosen Option : **2**

Q.9 दिए गए समीकरण को सही करने के लिए किन दो संख्याओं को आपस में बदला जाना चाहिए?
 $4 \times 6 - 3 + 8 = 14$

- Ans
- ✓ 1. 3 और 6
 - ✗ 2. 3 और 8
 - ✗ 3. 8 और 14
 - ✗ 4. 6 और 4

Question Type : MCQ
Question ID : 264330137576
Option 1 ID : 264330538912
Option 2 ID : 264330538913
Option 3 ID : 264330538914
Option 4 ID : 264330538911
Status : Answered
Chosen Option : 1

Q.10 एक निश्चित कूट भाषा में, 'CAUTION' को 'NOITCAU' लिखा जाता है। उस कूट भाषा में 'FOREVER' को कैसे लिखा जाएगा?

- Ans
- ✓ 1. REVEFOR
 - ✗ 2. PEVEROF
 - ✗ 3. PEVEEOR
 - ✗ 4. FOEVRPR

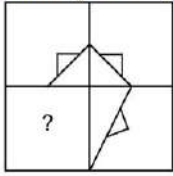
Question Type : MCQ
Question ID : 264330134980
Option 1 ID : 264330528858
Option 2 ID : 264330528856
Option 3 ID : 264330528857
Option 4 ID : 264330528855
Status : Answered
Chosen Option : 1

Q.11 एक निश्चित कूट भाषा में, 'FORTUNE' को 'ENU20ROF' लिखा जाता है। उस कूट भाषा में 'PATRICK' को कैसे लिखा जाएगा?

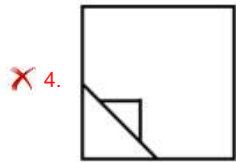
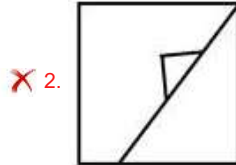
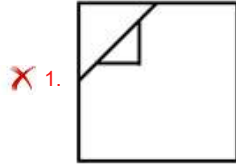
- Ans
- ✓ 1. KCI18TAP
 - ✗ 2. KCI81TAP
 - ✗ 3. KIC18TAP
 - ✗ 4. KCI18TPA

Question Type : MCQ
Question ID : 264330137791
Option 1 ID : 264330539772
Option 2 ID : 264330539773
Option 3 ID : 264330539771
Option 4 ID : 264330539774
Status : Answered
Chosen Option : 1

Q.12 उस विकल्प आकृति को चुनिए जो पैटर्न को पूरा करने के लिए नीचे दी गई आकृति में प्रश्न चिन्ह (?) के स्थान पर आएगी। (घूर्णन की अनुमति नहीं है)



Ans



Question Type : MCQ

Question ID : 264330137580

Option 1 ID : 264330538929

Option 2 ID : 264330538930

Option 3 ID : 264330538927

Option 4 ID : 264330538928

Status : Answered

Chosen Option : 3

Q.13 छः मित्र एक परिधि में केंद्र की ओर मुख करके बैठे हैं। D, P और Q के बीच में है। T, M और L के बीच में है। P और M एक-दूसरे के ठीक आमने-सामने हैं। P, L के ठीक दाईं ओर है। Q के ठीक सामने कौन बैठा है?

Ans

✓ 1. L

✗ 2. M

✗ 3. P

✗ 4. D

Question Type : MCQ

Question ID : 264330137568

Option 1 ID : 264330538879

Option 2 ID : 264330538881

Option 3 ID : 264330538880

Option 4 ID : 264330538882

Status : Answered

Chosen Option : 1

Q.14 तीन कथन दिए गए हैं और दो निष्कर्ष I और II दिए गए हैं। कथनों को सत्य मानते हुए, चाहे वे सामान्यतः ज्ञात तथ्यों से अलग प्रतीत होते हों, निश्चय कीजिए कि कौन-सा निष्कर्ष तार्किक रूप से कथनों के अनुसार है।
कथन:

सभी बकरियाँ, काली हैं।

कुछ काले, सफेद हैं।

कोई काला, सोना नहीं है।

निष्कर्ष:

I. कुछ बकरियाँ, सफेद हैं।

II. कुछ बकरियों के सोना होने की संभावना है।

Ans

1. केवल निष्कर्ष II कथनों के अनुसार है

2. केवल निष्कर्ष I कथनों के अनुसार है

3. न तो निष्कर्ष I और न ही II कथनों के अनुसार है

4. दोनों निष्कर्ष I और II कथनों के अनुसार हैं

Question Type : **MCQ**

Question ID : **264330137571**

Option 1 ID : **264330538892**

Option 2 ID : **264330538891**

Option 3 ID : **264330538894**

Option 4 ID : **264330538893**

Status : **Answered**

Chosen Option : **3**

Q.15 उस विकल्प को चुनिए जो तीसरे शब्द से ठीक उसी प्रकार संबंधित है जिस प्रकार दूसरा शब्द पहले शब्द से संबंधित है।

डॉक्टर : स्टेथोस्कोप :: बढ़ई : ?

Ans

1. कप

2. हथौड़ा

3. लैपटॉप

4. चित्रकला

Question Type : **MCQ**

Question ID : **264330137561**

Option 1 ID : **264330538854**

Option 2 ID : **264330538851**

Option 3 ID : **264330538852**

Option 4 ID : **264330538853**

Status : **Answered**

Chosen Option : **2**

Q.16 दी गई आकृति के उस सही दर्पण प्रतिबिंब को चुनिए, जो नीचे दर्शाए गए अनुसार दर्पण को MN पर रखने पर बनेगा।

NOTIFICATION 

Ans

- ✗ 1. 
- ✗ 2. 
- ✓ 3. 
- ✗ 4. 

Question Type : MCQ

Question ID : 264330133579

Option 1 ID : 264330523342

Option 2 ID : 264330523341

Option 3 ID : 264330523339

Option 4 ID : 264330523340

Status : Answered

Chosen Option : 3

Q.17 दी गई श्रृंखला में निम्नलिखित में से कौन-सी संख्या प्रश्न चिन्ह (?) के स्थान पर आएगी?
44, 52, 54, 62, 64, 72, ?

Ans

- ✗ 1. 96
- ✗ 2. 79
- ✗ 3. 85
- ✓ 4. 74

Question Type : MCQ

Question ID : 264330137573

Option 1 ID : 264330538900

Option 2 ID : 264330538901

Option 3 ID : 264330538899

Option 4 ID : 264330538902

Status : Answered

Chosen Option : 4

Q.18 दिए गए समीकरण को सही करने के लिए किन दो संख्याओं को आपस में बदला जाना चाहिए?
 $96 \div 6 - 16 + 12 \times 8 = 40$

- Ans
- 1. 6 और 8
 - 2. 6 और 12
 - 3. 6 और 16
 - 4. 96 और 16

Question Type : MCQ

Question ID : 264330133522

Option 1 ID : 264330523120

Option 2 ID : 264330523122

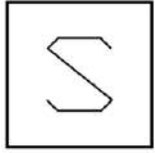
Option 3 ID : 264330523121

Option 4 ID : 264330523119

Status : Answered

Chosen Option : 2

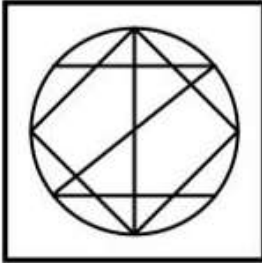
Q.19 उस विकल्प आकृति को चुनिए जिसमें दी गई आकृति (X) उसके भाग के रूप में निहित है (घूर्णन की अनुमति नहीं है)।



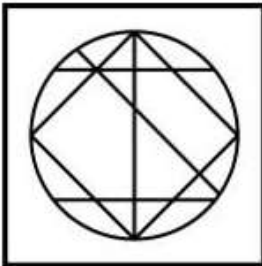
(X)

Ans

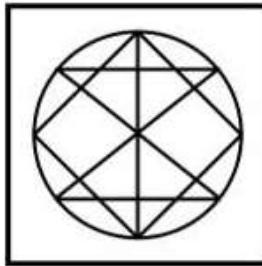
✗ 1.



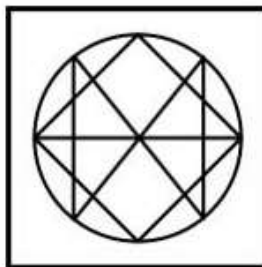
✗ 2.



✓ 3.



✗ 4.



Question Type : MCQ

Question ID : 264330133578

Option 1 ID : 264330523336

Option 2 ID : 264330523338

Option 3 ID : 264330523335

Option 4 ID : 264330523337

Status : Answered

Chosen Option : 3

Q.20 उस विकल्प को चुनिए जो तीसरे अक्षर-समूह से ठीक उसी प्रकार संबंधित है जिस प्रकार दूसरा अक्षर-समूह पहले अक्षर-समूह से संबंधित है।
REG : SDH :: UFC : ?

- Ans
- 1. VMD
 - 2. DEV
 - 3. VEF
 - 4. VED

Question Type : MCQ
Question ID : 264330137562
Option 1 ID : 264330538857
Option 2 ID : 264330538855
Option 3 ID : 264330538858
Option 4 ID : 264330538856
Status : Answered
Chosen Option : 4

Section : General Awareness

Q.1 संविधान सभा का गठन, कैबिनेट मिशन की सिफारिश पर किया गया था जिसने _____ में भारत का दौरा किया था।

- Ans
- 1. 1952
 - 2. 1959
 - 3. 1946
 - 4. 1962

Question Type : MCQ
Question ID : 264330137756
Option 1 ID : 264330539631
Option 2 ID : 264330539633
Option 3 ID : 264330539632
Option 4 ID : 264330539634
Status : Answered
Chosen Option : 3

Q.2 किस युद्ध के बाद अशोक ने भौतिक अधिग्रहण (physical occupation) की नीति को त्याग दिया?

- Ans
- 1. कलिंग युद्ध (Kalinga War)
 - 2. तराइन के युद्ध (Battle of the Tarain)
 - 3. मगध-अंग युद्ध (Magadha-Anga war)
 - 4. झेलम के युद्ध (Battle of the Hydaspes)

Question Type : MCQ
Question ID : 264330134044
Option 1 ID : 264330525199
Option 2 ID : 264330525201
Option 3 ID : 264330525202
Option 4 ID : 264330525200
Status : Answered
Chosen Option : 1

Q.3 स्वामी विवेकानंद के आध्यात्मिक गुरु कौन थे?

- Ans
- 1. नरेंद्र दत्ता
 - 2. गोपाल कृष्ण गोखले
 - 3. आचार्य नरेंद्र देव
 - 4. रामकृष्ण परमहंस

Question Type : MCQ
Question ID : 264330134047
Option 1 ID : 264330525211
Option 2 ID : 264330525214
Option 3 ID : 264330525212
Option 4 ID : 264330525213
Status : Answered
Chosen Option : 2

Q.4 निम्नलिखित में से किस ग्रह को पृथ्वी का जुड़वाँ ग्रह भी कहा जाता है?

- Ans
- 1. शुक्र
 - 2. शनि
 - 3. बृहस्पति
 - 4. नेपच्यून

Question Type : MCQ
Question ID : 264330134652
Option 1 ID : 264330527563
Option 2 ID : 264330527566
Option 3 ID : 264330527564
Option 4 ID : 264330527565
Status : Answered
Chosen Option : 1

Q.5 Which RBI tool refers to buying and selling of bonds issued by the Government in the open market?

- Ans
- 1. Moral suasion
 - 2. Marginal standing facility
 - 3. Liquidity adjustment facility
 - 4. Open Market Operations

Question Type : MCQ
Question ID : 264330138684
Option 1 ID : 264330543343
Option 2 ID : 264330543346
Option 3 ID : 264330543345
Option 4 ID : 264330543344
Status : Answered
Chosen Option : 3

Q.6 निम्नलिखित नृत्य शैलियों में से कौन-सी मूल रूप से तमिलनाडु के मंदिरों में देवदासियों द्वारा की जाती थी और इसलिए इसे दासिअट्टम (Dasiattam) के नाम से भी जाना जाता है?

- Ans
- 1. मणिपुरी
 - 2. कुचिपुड़ी
 - 3. भरतनाट्यम
 - 4. ओडिसी

Question Type : MCQ
Question ID : 264330137738
Option 1 ID : 264330539559
Option 2 ID : 264330539562
Option 3 ID : 264330539561
Option 4 ID : 264330539560
Status : Answered
Chosen Option : 3

Q.7 भारत में उगादि त्यौहार _____ के उपलक्ष्य में मनाता है।

- Ans
- 1. पहली बारिश
 - 2. बारिश के मौसम
 - 3. नववर्ष की शुरुआत
 - 4. फसल कटाई के मौसम

Question Type : MCQ
Question ID : 264330134034
Option 1 ID : 264330525162
Option 2 ID : 264330525161
Option 3 ID : 264330525160
Option 4 ID : 264330525159
Status : Answered
Chosen Option : 4

Q.8 खेलो इंडिया यूथ खेलों का पाँचवा संस्करण वर्ष 2023 में कहाँ आयोजित किया गया?

- Ans
- 1. महाराष्ट्र
 - 2. पश्चिम बंगाल
 - 3. आंध्रप्रदेश
 - 4. मध्यप्रदेश

Question Type : MCQ
Question ID : 264330137758
Option 1 ID : 264330539642
Option 2 ID : 264330539641
Option 3 ID : 264330539640
Option 4 ID : 264330539639
Status : Answered
Chosen Option : 4

Q.9 बैलेनोग्लोसस (Balanoglossus) प्राणी जगत के निम्नलिखित में से किस संघ से संबंधित है?

- Ans
- ✓ 1. हेमीकार्डेटा (Hemichordata)
 - ✗ 2. एकाइनोडर्मेटा (Echinodermata)
 - ✗ 3. मोलस्का (Mollusca)
 - ✗ 4. आर्थ्रोपोडा (Arthropoda)

Question Type : MCQ
Question ID : 264330137742
Option 1 ID : 264330539576
Option 2 ID : 264330539575
Option 3 ID : 264330539577
Option 4 ID : 264330539578
Status : Answered
Chosen Option : 2

Q.10 बाबर ने महमूद लोदी और सुल्तान नुसरत शाह को 1529 में _____ के युद्ध में हराकर भारत में मुगल शासन की स्थापना की।

- Ans
- ✗ 1. चौसा
 - ✓ 2. घाघरा
 - ✗ 3. कन्नौज
 - ✗ 4. खानवा

Question Type : MCQ
Question ID : 264330134658
Option 1 ID : 264330527590
Option 2 ID : 264330527587
Option 3 ID : 264330527589
Option 4 ID : 264330527588
Status : Answered
Chosen Option : 2

Q.11 प्रधानमंत्री ग्रामोदय योजना वर्ष _____ में शुरू की गई थी।

- Ans
- ✗ 1. 1998
 - ✗ 2. 2005
 - ✓ 3. 2000
 - ✗ 4. 2010

Question Type : MCQ
Question ID : 264330138291
Option 1 ID : 264330541771
Option 2 ID : 264330541773
Option 3 ID : 264330541772
Option 4 ID : 264330541774
Status : Answered
Chosen Option : 2

Q.12 मशहूर कलाकार सितारा देवी की 101वीं जयंती पर निर्माता राज सी आनंद (Raj C Anand) ने उनके जीवन पर एक चलचित्र बनाने की घोषणा की है। सितारा देवी एक प्रसिद्ध _____ नर्तकी थीं।

- Ans
- 1. ओडिसी
 - 2. कथक
 - 3. कुचिपुड़ी
 - 4. कथकली

Question Type : MCQ
Question ID : 264330138681
Option 1 ID : 264330543333
Option 2 ID : 264330543331
Option 3 ID : 264330543332
Option 4 ID : 264330543334
Status : Answered
Chosen Option : 4

Q.13 निम्नलिखित अधिनियमों में से किस अधिनियम ने द्वैध शासन की शुरुआत की, अर्थात्, कार्यकारी पार्षद और लोकप्रिय मंत्री दोनों का शासन?

- Ans
- 1. चार्टर अधिनियम, 1813
 - 2. भारतीय परिषद अधिनियम, 1861
 - 3. भारत सरकार अधिनियम, 1858
 - 4.

मॉन्टेग्यू-चेम्सफोर्ड सुधार (Montague-Chelmsford Reform) (भारत सरकार अधिनियम), 1919

Question Type : MCQ
Question ID : 264330133996
Option 1 ID : 264330525009
Option 2 ID : 264330525010
Option 3 ID : 264330525007
Option 4 ID : 264330525008
Status : Answered
Chosen Option : 4

Q.14 संगमरमर का रासायनिक नाम क्या है ?

- Ans
- 1. कैल्शियम हाइड्रॉक्साइड (Calcium hydroxide)
 - 2. मैग्नीशियम ऑक्साइड (Magnesium oxide)
 - 3. कैल्शियम कार्बोनेट (Calcium carbonate)
 - 4. सोडियम हाइड्रॉक्साइड (Sodium hydroxide)

Question Type : MCQ
Question ID : 264330134651
Option 1 ID : 264330527562
Option 2 ID : 264330527560
Option 3 ID : 264330527559
Option 4 ID : 264330527561
Status : Answered
Chosen Option : 3

Q.15 2011 की जनगणना के अनुसार, भारत में नगरीय जनसंख्या का प्रतिशत कितना था? (अनुमानित सीमा प्रदान करें)

- Ans
- 1. 40-45%
 - 2. 20-25%
 - 3. 10-15%
 - 4. 30-35%

Question Type : MCQ

Question ID : 264330133942

Option 1 ID : 264330524794

Option 2 ID : 264330524792

Option 3 ID : 264330524791

Option 4 ID : 264330524793

Status : Answered

Chosen Option : 4

Q.16 निम्नलिखित में से किसे 'ठुमरी की रानी ('Queen of Thumri)' के नाम से जाना जाता था?

- Ans
- 1. सिद्धेश्वरी देवी (Siddheswari Devi)
 - 2. बेगम परवीन सुल्ताना (Begum Parveen Sultana)
 - 3. गिरिजा देवी (Girija Devi)
 - 4. गंगूबाई हंगल (Gangubai Hangal)

Question Type : MCQ

Question ID : 264330137754

Option 1 ID : 264330539625

Option 2 ID : 264330539624

Option 3 ID : 264330539626

Option 4 ID : 264330539623

Status : Answered

Chosen Option : 3

Q.17 कोदों (Kodon), कुटकी (Kutki), हड़का (Hraka), बाउटी (Bauti) _____ के उदाहरण हैं।

- Ans
- 1. बाजरा
 - 2. फलों
 - 3. सब्जियों
 - 4. रेशम

Question Type : MCQ

Question ID : 264330138691

Option 1 ID : 264330543373

Option 2 ID : 264330543371

Option 3 ID : 264330543372

Option 4 ID : 264330543374

Status : Answered

Chosen Option : 1

Q.18 निम्नलिखित में से क्या भारत के संविधान में संघ सूची के अंतर्गत आता है?

Ans 1. प्रत्यर्पण (Extradition)

2. सामाजिक नियोजन (Social planning)

3. शराब (Liquor)

4. बॉयलर (Boilers)

Question Type : MCQ

Question ID : 264330137757

Option 1 ID : 264330539638

Option 2 ID : 264330539636

Option 3 ID : 264330539635

Option 4 ID : 264330539637

Status : Answered

Chosen Option : 1

Q.19 कवास थर्मल पावर स्टेशन निम्नलिखित में से किस राज्य में स्थित है?

Ans 1. राजस्थान

2. पश्चिम बंगाल

3. गुजरात

4. महाराष्ट्र

Question Type : MCQ

Question ID : 264330137746

Option 1 ID : 264330539591

Option 2 ID : 264330539592

Option 3 ID : 264330539594

Option 4 ID : 264330539593

Status : Answered

Chosen Option : 3

Q.20 निम्नलिखित में से किसने सुल्तान जोहोर कप 2022 जीता है?

Ans 1. ऑस्ट्रेलिया

2. न्यूज़ीलैंड

3. भारत

4. इंग्लैंड

Question Type : MCQ

Question ID : 264330134667

Option 1 ID : 264330527625

Option 2 ID : 264330527623

Option 3 ID : 264330527626

Option 4 ID : 264330527624

Status : Answered

Chosen Option : 3

Q.21 प्रतिस्पर्धा (संशोधन) विधेयक (The Competition (Amendment) Bill), 2022 का उद्देश्य लेन-देन के मूल्य के आधार पर विलय और अधिग्रहण (mergers and acquisitions) को विनियमित करना है, और यह कहता है कि ₹2,000 करोड़ से अधिक के सौदे मूल्य वाले किसी भी लेन-देन के लिए भारतीय प्रतिस्पर्धा आयोग (Competition Commission of India) की स्वीकृति (approval) आवश्यक होगी। मंजूरी में तेजी लाने के लिए, प्रस्तावित कानून यह भी कहता है कि सीसीआई (CCI) के लिए इस तरह के लेन-देन पर आदेश पारित करने की समय सीमा 210 कार्य दिवसों से घटाकर _____ दिवस कर दी जाएगी।

- Ans**
- 1. 200
 - 2. 120
 - 3. 175
 - 4. 150

Question Type : **MCQ**
Question ID : **264330133982**
Option 1 ID : **264330524954**
Option 2 ID : **264330524952**
Option 3 ID : **264330524953**
Option 4 ID : **264330524951**
Status : **Answered**
Chosen Option : **2**

Q.22 आगरा का किला 16वीं शताब्दी में _____ द्वारा बनवाए गए लोकप्रिय मुगल स्मारकों में से एक है।

- Ans**
- 1. अकबर
 - 2. बाबर
 - 3. हुमायूँ
 - 4. शाहजहाँ

Question Type : **MCQ**
Question ID : **264330133985**
Option 1 ID : **264330524963**
Option 2 ID : **264330524965**
Option 3 ID : **264330524964**
Option 4 ID : **264330524966**
Status : **Answered**
Chosen Option : **3**

Q.23 निम्नलिखित में से किस रसायन का उपयोग विसंक्रामक के रूप में जल को शुद्ध करने के लिए किया जाता है?

- Ans**
- 1. टेफ्लॉन
 - 2. फॉस्फर
 - 3. एथेनॉल
 - 4. क्लोरीन

Question Type : **MCQ**
Question ID : **264330134649**
Option 1 ID : **264330527552**
Option 2 ID : **264330527554**
Option 3 ID : **264330527551**
Option 4 ID : **264330527553**
Status : **Answered**
Chosen Option : **4**

Q.24 उपन्यास 'द पैलेस ऑफ इल्यूजन्स (The Palace of Illusions)' _____ द्वारा लिखा गया है।

- Ans
- 1. अमीश त्रिपाठी
 - 2. किरण देसाई
 - 3. चित्रा बनर्जी दिवाकरणी
 - 4. इंदु सुंदरेसन

Question Type : MCQ
Question ID : 264330138679
Option 1 ID : 264330543325
Option 2 ID : 264330543323
Option 3 ID : 264330543326
Option 4 ID : 264330543324
Status : Answered
Chosen Option : 1

Q.25 केंद्रीय वित्तमंत्री निर्मला सीतारमण ने 2022 में यह घोषणा की है कि वह _____ प्लेटफॉर्म लॉन्च करेंगी, जो ओरिएंटल और दक्षिण एशियाई अध्ययन (Oriental and South Asian Studies) के लिए एक ऑनलाइन शिक्षण प्लेटफॉर्म है।

- Ans
- 1. हर घर विद्या (Har Ghar Vidya)
 - 2. भारत विद्या (Bharat Vidya)
 - 3. विद्या, मेरा अधिकार (Vidya, Mera Adhikar)
 - 4. विद्या (Vidya)

Question Type : MCQ
Question ID : 264330137736
Option 1 ID : 264330539554
Option 2 ID : 264330539553
Option 3 ID : 264330539552
Option 4 ID : 264330539551
Status : Answered
Chosen Option : 2

Section : English Language and Comprehension

Q.1 Select the most appropriate option to fill in the blank.
Multi-client messaging systems make it easier to keep in _____.

- Ans
- 1. roll
 - 2. touch
 - 3. diary
 - 4. secret

Question Type : MCQ
Question ID : 264330134526
Option 1 ID : 264330527065
Option 2 ID : 264330527066
Option 3 ID : 264330527064
Option 4 ID : 264330527063
Status : Answered
Chosen Option : 2

Q.2 Choose the word that can substitute the given group of words.

Bearing no name

- Ans
- 1. Pseudonym
 - 2. Anonymous
 - 3. Anomaly
 - 4. Namesake

Question Type : MCQ
Question ID : 264330134785
Option 1 ID : 264330528085
Option 2 ID : 264330528086
Option 3 ID : 264330528083
Option 4 ID : 264330528084
Status : Answered
Chosen Option : 2

Q.3 Improve the underlined part of the sentence. Choose 'No improvement' as an answer if the sentence is grammatically correct.

I rode my bike to worked those morning.

- Ans
- 1. work this
 - 2. No improvement
 - 3. work these
 - 4. worked this

Question Type : MCQ
Question ID : 264330134774
Option 1 ID : 264330528043
Option 2 ID : 264330528046
Option 3 ID : 264330528044
Option 4 ID : 264330528045
Status : Answered
Chosen Option : 1

Q.4 Select the most appropriate synonym of the given word.

Equivocal

- Ans
- 1. Definite
 - 2. Secure
 - 3. Ambiguous
 - 4. Insecure

Question Type : MCQ
Question ID : 264330136099
Option 1 ID : 264330533203
Option 2 ID : 264330533204
Option 3 ID : 264330533206
Option 4 ID : 264330533205
Status : Answered
Chosen Option : 3

Q.5 Choose the sentence with no spelling error.

- Ans** 1. Everything hurt in a dull, constant way.
 2. Everything hurrt in a dull, constant way.
 3. Everything hurt in a dul, contant weigh.
 4. Everything hurt in a dull, contsant way.

Question Type : **MCQ**
Question ID : **264330134525**
Option 1 ID : **264330527061**
Option 2 ID : **264330527060**
Option 3 ID : **264330527062**
Option 4 ID : **264330527059**
Status : **Answered**
Chosen Option : **1**

Q.6 Select the most appropriate option to substitute the bracketed segment in the given sentence. If there is no need to substitute it, select 'no substitution required'.

This preoccupation with him was becoming an obsession (that was beginning to effect her) ability to take care of the house.

- Ans** 1. No substitution required
 2. that was beginning to affect her ability
 3. which was begin to affect her ability
 4. which was beginning to effect her ability

Question Type : **MCQ**
Question ID : **264330136218**
Option 1 ID : **264330533666**
Option 2 ID : **264330533665**
Option 3 ID : **264330533664**
Option 4 ID : **264330533663**
Status : **Answered**
Chosen Option : **4**

Q.7 Select the most appropriate option to fill in the blank.

Join our networks to _____ better Governance.

- Ans** 1. sedate
 2. drain
 3. promote
 4. disintegrate

Question Type : **MCQ**
Question ID : **264330136089**
Option 1 ID : **264330533168**
Option 2 ID : **264330533167**
Option 3 ID : **264330533170**
Option 4 ID : **264330533169**
Status : **Answered**
Chosen Option : **3**

Q.8 Select the most appropriate word for the given group of words.

Persons who are unfairly blamed for something that others have done

- Ans**
- 1. Disdain
 - 2. Epitome
 - 3. Expedition
 - 4. Scapegoat

Question Type : **MCQ**
Question ID : **264330136098**
Option 1 ID : **264330533201**
Option 2 ID : **264330533200**
Option 3 ID : **264330533199**
Option 4 ID : **264330533202**
Status : **Answered**
Chosen Option : **1**

Q.9 Identify the segment that contains a grammatical error. If there is no error, select 'No error'.

The timescale of prokaryote evolution / have been difficult to reconstruct / because of a limited fossil record.

- Ans**
- 1. because of a limited fossil record.
 - 2. have been difficult to reconstruct
 - 3. The timescale of prokaryote evolution
 - 4. No error

Question Type : **MCQ**
Question ID : **264330136085**
Option 1 ID : **264330533153**
Option 2 ID : **264330533152**
Option 3 ID : **264330533151**
Option 4 ID : **264330533154**
Status : **Answered**
Chosen Option : **4**

Q.10 Choose the word that is opposite in meaning to the given word.
Disregard

- Ans**
- 1. Curiosity
 - 2. Demote
 - 3. Split
 - 4. Hidden

Question Type : **MCQ**
Question ID : **264330134468**
Option 1 ID : **264330526841**
Option 2 ID : **264330526840**
Option 3 ID : **264330526839**
Option 4 ID : **264330526842**
Status : **Answered**
Chosen Option : **1**

Q.11 A sentence has been given with a blank to be filled with an appropriate option. Choose the correct alternative.

I _____ the cake before my mother arrived.

- Ans**
- 1. had baked
 - 2. have baked
 - 3. bake
 - 4. baked

Question Type : **MCQ**

Question ID : **264330134535**

Option 1 ID : **264330527100**

Option 2 ID : **264330527102**

Option 3 ID : **264330527101**

Option 4 ID : **264330527099**

Status : **Answered**

Chosen Option : **1**

Q.12 Select the word segment that substitutes (replaces) the bracketed word segment correctly and completes the sentence meaningfully. Select the option 'no correction required' if the sentence is correct as given.

She ran 12 kms at a stretch, (which are a greater) distance for a rookie.

- Ans**
- 1. which are greatest
 - 2. No correction required
 - 3. what is great
 - 4. which is quite some

Question Type : **MCQ**

Question ID : **264330136643**

Option 1 ID : **264330535295**

Option 2 ID : **264330535298**

Option 3 ID : **264330535296**

Option 4 ID : **264330535297**

Status : **Answered**

Chosen Option : **2**

Q.13 Identify the segment that contains a grammatical error. If there is no error, select 'No error'.

The last time he repeated / the same mistake I thought he would / feel many sorry but I was wrong.

- Ans**
- 1. The last time he repeated
 - 2. No error
 - 3. feel many sorry but I was wrong.
 - 4. the same mistake I thought he would

Question Type : **MCQ**

Question ID : **264330136640**

Option 1 ID : **264330535283**

Option 2 ID : **264330535286**

Option 3 ID : **264330535285**

Option 4 ID : **264330535284**

Status : **Answered**

Chosen Option : **3**

Q.14 Select the correctly spelt word.

- Ans
- 1. Epiphene
 - 2. Epiphany
 - 3. Epephany
 - 4. Epipheny

Question Type : MCQ

Question ID : 264330136105

Option 1 ID : 264330533230

Option 2 ID : 264330533228

Option 3 ID : 264330533227

Option 4 ID : 264330533229

Status : Answered

Chosen Option : 4

Q.15 Select the most appropriate antonym to substitute the bracketed word in the given sentence.

So it would appear that from now on I am going to have to be more (tactful) and diplomatic in my meanderings.

- Ans
- 1. Ungracious
 - 2. Sycophantic
 - 3. Grovelling
 - 4. Fawning

Question Type : MCQ

Question ID : 264330136102

Option 1 ID : 264330533217

Option 2 ID : 264330533216

Option 3 ID : 264330533215

Option 4 ID : 264330533218

Status : Answered

Chosen Option : 4

Q.16 Select the most appropriate option to fill in the blank.

Eventually, the water will _____ through the surrounding concrete.

- Ans
- 1. permeate
 - 2. statolith
 - 3. aerate
 - 4. delegate

Question Type : MCQ

Question ID : 264330136108

Option 1 ID : 264330533240

Option 2 ID : 264330533241

Option 3 ID : 264330533242

Option 4 ID : 264330533239

Status : Answered

Chosen Option : 1

Q.17 In the following question, out of the given four alternatives, select the alternative which best expresses the meaning of the Idiom/Phrase.

To meet one's eyes

- Ans**
- 1. To confess something
 - 2. To make haste
 - 3. To meet someone regularly
 - 4. To look at someone directly while they are looking at you

Question Type : **MCQ**
Question ID : **264330134791**
Option 1 ID : **264330528110**
Option 2 ID : **264330528108**
Option 3 ID : **264330528109**
Option 4 ID : **264330528107**
Status : **Answered**
Chosen Option : **1**

Q.18 Select the most appropriate meaning of the bracketed idiom in the given sentence.

The first sample of ore from the trial boring is very promising, but we should remember that (one swallow does not make a summer.)

- Ans**
- 1. The whole of everything
 - 2.
A single fortunate event does not mean that what follows will also be good.
 - 3. To come out of one trouble and get into a worse
 - 4.
The fact of failure or escape is not affected by the narrowness of the margin

Question Type : **MCQ**
Question ID : **264330136104**
Option 1 ID : **264330533226**
Option 2 ID : **264330533223**
Option 3 ID : **264330533224**
Option 4 ID : **264330533225**
Status : **Answered**
Chosen Option : **4**

Q.19 Choose the word that means the same as the given word.
Gauge

- Ans**
- 1. Measure
 - 2. Attempt
 - 3. Valve
 - 4. Diagnose

Question Type : **MCQ**
Question ID : **264330134545**
Option 1 ID : **264330527135**
Option 2 ID : **264330527136**
Option 3 ID : **264330527138**
Option 4 ID : **264330527137**
Status : **Answered**
Chosen Option : **1**

Q.20 Find the part of the given sentence that has an error in it. If there is no error, choose 'No error'.

Participants in our studies reviewed these online dating profiles.

- Ans
- 1. online dating profiles.
 - 2. studies reviewed these
 - 3. Participants in our
 - 4. No error

Question Type : **MCQ**

Question ID : **264330134372**

Option 1 ID : **264330526473**

Option 2 ID : **264330526472**

Option 3 ID : **264330526471**

Option 4 ID : **264330526474**

Status : **Answered**

Chosen Option : **3**

Comprehension:

In the following passage some of the words have been deleted. Read the passage carefully and select the correct answer for the given blank out of the four alternatives.

The "Sesame Street" spinoff (1) _____ to be the first Russian-language educational TV (2) _____ aimed specifically at preschoolers. The project (3) _____ support from both American and Russian government officials. "If we do not reform our (4) _____, we can hardly hope that we will reform our society," (5) _____ Elena Lenskaya, a director in Russia's Ministry of Education, during a 1992 U.S. congressional hearing on the planned adaptation.

SubQuestion No : 21

Q.21 Select the most appropriate option to fill in blank number 1.

- Ans
- 1. set out
 - 2. set in
 - 3. set aside
 - 4. set off

Question Type : **MCQ**

Question ID : **264330134459**

Option 1 ID : **264330526803**

Option 2 ID : **264330526805**

Option 3 ID : **264330526806**

Option 4 ID : **264330526804**

Status : **Answered**

Chosen Option : **1**

Comprehension:

In the following passage some of the words have been deleted. Read the passage carefully and select the correct answer for the given blank out of the four alternatives.

The "Sesame Street" spinoff (1) _____ to be the first Russian-language educational TV (2) _____ aimed specifically at preschoolers. The project (3) _____ support from both American and Russian government officials. "If we do not reform our (4) _____, we can hardly hope that we will reform our society," (5) _____ Elena Lenskaya, a director in Russia's Ministry of Education, during a 1992 U.S. congressional hearing on the planned adaptation.

SubQuestion No : 22

Q.22 Select the most appropriate option to fill in blank number 2.

Ans 1. program

2. solution

3. pattern

4. recipe

Question Type : **MCQ**

Question ID : **264330134460**

Option 1 ID : **264330526808**

Option 2 ID : **264330526807**

Option 3 ID : **264330526809**

Option 4 ID : **264330526810**

Status : **Answered**

Chosen Option : **1**

Comprehension:

In the following passage some of the words have been deleted. Read the passage carefully and select the correct answer for the given blank out of the four alternatives.

The "Sesame Street" spinoff (1) _____ to be the first Russian-language educational TV (2) _____ aimed specifically at preschoolers. The project (3) _____ support from both American and Russian government officials. "If we do not reform our (4) _____, we can hardly hope that we will reform our society," (5) _____ Elena Lenskaya, a director in Russia's Ministry of Education, during a 1992 U.S. congressional hearing on the planned adaptation.

SubQuestion No : 23

Q.23 Select the most appropriate option to fill in blank number 3.

Ans 1. receive

2. received

3. did received

4. receiving

Question Type : **MCQ**

Question ID : **264330134461**

Option 1 ID : **264330526812**

Option 2 ID : **264330526814**

Option 3 ID : **264330526813**

Option 4 ID : **264330526811**

Status : **Answered**

Chosen Option : **2**

Comprehension:

In the following passage some of the words have been deleted. Read the passage carefully and select the correct answer for the given blank out of the four alternatives.

The "Sesame Street" spinoff (1) _____ to be the first Russian-language educational TV (2) _____ aimed specifically at preschoolers. The project (3) _____ support from both American and Russian government officials. "If we do not reform our (4) _____, we can hardly hope that we will reform our society," (5) _____ Elena Lenskaya, a director in Russia's Ministry of Education, during a 1992 U.S. congressional hearing on the planned adaptation.

SubQuestion No : 24

Q.24 Select the most appropriate option to fill in blank number 4.

- Ans 1. politics
 2. economy
 3. education
 4. society

Question Type : **MCQ**

Question ID : **264330134462**

Option 1 ID : **264330526818**

Option 2 ID : **264330526816**

Option 3 ID : **264330526817**

Option 4 ID : **264330526815**

Status : **Answered**

Chosen Option : **3**

Comprehension:

In the following passage some of the words have been deleted. Read the passage carefully and select the correct answer for the given blank out of the four alternatives.

The "Sesame Street" spinoff (1) _____ to be the first Russian-language educational TV (2) _____ aimed specifically at preschoolers. The project (3) _____ support from both American and Russian government officials. "If we do not reform our (4) _____, we can hardly hope that we will reform our society," (5) _____ Elena Lenskaya, a director in Russia's Ministry of Education, during a 1992 U.S. congressional hearing on the planned adaptation.

SubQuestion No : 25

Q.25 Select the most appropriate option to fill in blank number 5.

- Ans 1. muted
 2. told
 3. said
 4. ordered

Question Type : **MCQ**

Question ID : **264330134463**

Option 1 ID : **264330526822**

Option 2 ID : **264330526820**

Option 3 ID : **264330526819**

Option 4 ID : **264330526821**

Status : **Answered**

Chosen Option : **3**

Multi Tasking Non Technical Staff and Havaladar CBIC and CBN Examination 2022

Roll Number	KD Job Updates
Candidate Name	KD Job Updates
Venue Name	iON Digital Zone iDZ Sandalpur
Exam Date	04/05/2023
Exam Time	12:00 PM - 2:00 PM
Subject	MTS Non Tech Havaladar CBIC and CBN Examination 2022

Section : Numerical and Mathematical Ability

Q.1 13, 26 और 52 के लघुत्तम समापवर्त्य और महत्तम समापवर्तक का अनुपात क्या होगा?

- Ans
- 1. 13 : 1
 - 2. 6 : 1
 - 3. 5 : 1
 - 4. 4 : 1

Question Type : MCQ
Question ID : 264330139071
Option 1 ID : 264330544894
Option 2 ID : 264330544891
Option 3 ID : 264330544892
Option 4 ID : 264330544893
Status : Answered
Chosen Option : 4

Q.2 यदि अमन अपनी सामान्य चाल से 12.5 प्रतिशत कम चाल से यात्रा करता है, तो वह 9 मिनट देर से पहुँचेगा। उसके द्वारा लिया जाने वाला सामान्य समय क्या है?

- Ans
- 1. 56 मिनट
 - 2. 70 मिनट
 - 3. 63 मिनट
 - 4. 49 मिनट

Question Type : MCQ
Question ID : 264330139058
Option 1 ID : 264330544840
Option 2 ID : 264330544842
Option 3 ID : 264330544841
Option 4 ID : 264330544839
Status : Answered
Chosen Option : 3

Q.3 यदि $p : q$ बराबर $4 : 3$ है और $q : r$ बराबर $5 : 2$ है, तो $p : q : r$ ज्ञात कीजिए।

- Ans
- 1. $10 : 4 : 7$
 - 2. $15 : 6 : 20$
 - 3. $7 : 4 : 10$
 - 4. $20 : 15 : 6$

Question Type : MCQ

Question ID : 264330135098

Option 1 ID : 264330529329

Option 2 ID : 264330529328

Option 3 ID : 264330529330

Option 4 ID : 264330529327

Status : Answered

Chosen Option : 4

Q.4 एक कंप्यूटर का अंकित मूल्य Rs.14000 है। कंप्यूटर का विक्रय मूल्य Rs.9702 है। यदि 23 प्रतिशत और y प्रतिशत के दो क्रमिक बट्टे दिए जाते हैं, तो y का मान क्या है?

- Ans
- 1. 12 प्रतिशत
 - 2. 15 प्रतिशत
 - 3. 10 प्रतिशत
 - 4. 5 प्रतिशत

Question Type : MCQ

Question ID : 264330139068

Option 1 ID : 264330544882

Option 2 ID : 264330544881

Option 3 ID : 264330544880

Option 4 ID : 264330544879

Status : Answered

Chosen Option : 3

Q.5 एक व्यापारी एक वस्तु को 20 प्रतिशत लाभ पर बेचता है। यदि वह उसे क्रय मूल्य के आधे मूल्य पर खरीदता है और पहले वाले विक्रय मूल्य पर ही बेच देता है, तो लाभ प्रतिशत क्या होगा?

- Ans
- 1. 100 प्रतिशत
 - 2. 140 प्रतिशत
 - 3. 150 प्रतिशत
 - 4. 50 प्रतिशत

Question Type : MCQ

Question ID : 264330139063

Option 1 ID : 264330544859

Option 2 ID : 264330544860

Option 3 ID : 264330544861

Option 4 ID : 264330544862

Status : Answered

Chosen Option : 2

Q.6 12 और 25 के बीच की अभाज्य संख्याओं का औसत क्या है?

- Ans
- 1. 24
 - 2. 18
 - 3. 20
 - 4. 23

Question Type : MCQ
Question ID : 264330139059
Option 1 ID : 264330544846
Option 2 ID : 264330544845
Option 3 ID : 264330544844
Option 4 ID : 264330544843
Status : Answered
Chosen Option : 2

Q.7 $96 \text{ of } 10 - 40 + 19 \div [(70 + (40 - 22)) \div 3] \div 4$ का मान है :

- Ans
- 1. 900
 - 2. 921
 - 3. 880
 - 4. 800

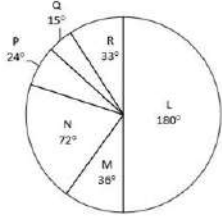
Question Type : MCQ
Question ID : 264330135065
Option 1 ID : 264330529196
Option 2 ID : 264330529198
Option 3 ID : 264330529195
Option 4 ID : 264330529197
Status : Answered
Chosen Option : 2

Q.8 राजीव 9% के लाभ पर मोहन को एक पुस्तक बेचता है और मोहन इसे गोपाल को 13% के लाभ पर बेचता है। यदि गोपाल इसके लिए Rs.12,317 का भुगतान करता है, तो राजीव द्वारा चुकाया गया क्रय मूल्य ज्ञात कीजिए।

- Ans
- 1. Rs. 16,000
 - 2. Rs. 11,000
 - 3. Rs. 10,000
 - 4. Rs. 15,000

Question Type : MCQ
Question ID : 264330141038
Option 1 ID : 264330552502
Option 2 ID : 264330552501
Option 3 ID : 264330552499
Option 4 ID : 264330552500
Status : Answered
Chosen Option : 3

Q.9 नीचे दिए गए वृत्त आलेख में एक वर्ष में छः कंपनियों द्वारा निर्मित ट्रकों की संख्या को दर्शाया गया है। इन सभी छः कंपनियों द्वारा निर्मित कुल ट्रक 2180 हैं। इनमें से किसी एक विशिष्ट कंपनी द्वारा निर्मित ट्रकों की संख्या को इन सभी छः कंपनियों द्वारा निर्मित कुल ट्रकों की संख्या के सापेक्ष डिग्री में दर्शाया गया है।



L, N और Q द्वारा निर्मित ट्रकों की कुल संख्या, M और R द्वारा निर्मित ट्रकों की कुल संख्या से कितने प्रतिशत अधिक है?

- Ans**
- 1. 192.85 प्रतिशत
 - 2. 286.95 प्रतिशत
 - 3. 188.24 प्रतिशत
 - 4. 274.56 प्रतिशत

Question Type : **MCQ**

Question ID : **264330139075**

Option 1 ID : **264330544909**

Option 2 ID : **264330544908**

Option 3 ID : **264330544910**

Option 4 ID : **264330544907**

Status : **Answered**

Chosen Option : **2**

Q.10 वार्षिक चक्रवृद्धि ब्याज की किस वार्षिक दर पर, Rs.20000 की धनराशि 1 वर्ष 6 माह में अर्धवार्षिक रूप से संयोजित होकर Rs.23152.50 हो जाती है?

- Ans**
- 1. 8% वार्षिक
 - 2. 5% वार्षिक
 - 3. 12% वार्षिक
 - 4. 10% वार्षिक

Question Type : **MCQ**

Question ID : **264330138101**

Option 1 ID : **264330541013**

Option 2 ID : **264330541011**

Option 3 ID : **264330541014**

Option 4 ID : **264330541012**

Status : **Answered**

Chosen Option : **4**

Q.11 चावल के मूल्य में 10% की वृद्धि होती है। हमें खपत में कितनी कमी करनी चाहिए जिससे चावल पर होने वाले व्यय में वृद्धि न हो?

- Ans
- 1. 50/3%
 - 2. 51/7%
 - 3. 100/11%
 - 4. 300/7%

Question Type : MCQ

Question ID : 264330138094

Option 1 ID : 264330540983

Option 2 ID : 264330540986

Option 3 ID : 264330540984

Option 4 ID : 264330540985

Status : Answered

Chosen Option : 3

Q.12 निम्न तालिका में पाँच अलग-अलग सोसाइटी में पुरुषों और महिलाओं की संख्या को दर्शाया गया है। सोसाइटी R की कुल जनसंख्या और सोसाइटी P में महिलाओं की संख्या के बीच कितना अंतर है?

Societies	Men	Women
P	440	320
Q	600	550
R	380	120
S	250	400
T	440	300

Societies - सोसाइटी, Men - पुरुष, Women - महिलाएं

- Ans
- 1. 180
 - 2. 320
 - 3. 300
 - 4. 210

Question Type : MCQ

Question ID : 264330135081

Option 1 ID : 264330529260

Option 2 ID : 264330529261

Option 3 ID : 264330529259

Option 4 ID : 264330529262

Status : Answered

Chosen Option : 1

Q.13 यदि दो संख्याओं का लघुत्तम समापवर्त्य (LCM) 72 है और उनका गुणनफल 1728 है, तो उन संख्याओं का महत्तम समापवर्तक (HCF) कितना है?

- Ans
- 1. 12
 - 2. 18
 - 3. 24
 - 4. 1

Question Type : MCQ

Question ID : 264330141001

Option 1 ID : 264330552351

Option 2 ID : 264330552352

Option 3 ID : 264330552353

Option 4 ID : 264330552354

Status : Answered

Chosen Option : 3

Q.14 यदि $J/4 = K/5 = L/3$ है, तो $(L + J)^2 : (J + K)^2 : (K + L)^2$ का मान क्या है?

- Ans
- ✓ 1. 49 : 81 : 64
 - ✗ 2. 49 : 81 : 62
 - ✗ 3. 64 : 25 : 81
 - ✗ 4. 25 : 16 : 9

Question Type : MCQ

Question ID : 264330139065

Option 1 ID : 264330544867

Option 2 ID : 264330544870

Option 3 ID : 264330544868

Option 4 ID : 264330544869

Status : Answered

Chosen Option : 1

Q.15 मिया और रिया अकेले एक कार्य को क्रमशः 15 दिन और 10 दिन में कर सकती हैं। मिया ने अकेले कार्य शुरू किया और फिर 5 दिन बाद, रिया उसके साथ शामिल हो गई और कार्य पूरा होने तक साथ रही। कार्य कितने समय तक चला?

- Ans
- ✗ 1. 4 दिन
 - ✗ 2. 12 दिन
 - ✗ 3. 5 दिन
 - ✓ 4. 9 दिन

Question Type : MCQ

Question ID : 264330133809

Option 1 ID : 264330524259

Option 2 ID : 264330524262

Option 3 ID : 264330524260

Option 4 ID : 264330524261

Status : Answered

Chosen Option : 4

Q.16 एक समूह में 300 पुरुष हैं। उनके पास 30 दिनों का भोजन है। 10 दिनों के बाद, समूह में 100 पुरुष और शामिल हो जाते हैं। शेष भोजन कितने दिनों तक चलेगा?

- Ans
- ✗ 1. 12 दिन
 - ✗ 2. 10 दिन
 - ✗ 3. 20 दिन
 - ✓ 4. 15 दिन

Question Type : MCQ

Question ID : 264330137875

Option 1 ID : 264330540107

Option 2 ID : 264330540108

Option 3 ID : 264330540109

Option 4 ID : 264330540110

Status : Answered

Chosen Option : 4

Q.17 एक व्यक्ति शुरुआती 25 km की दूरी 60 मिनट में और अगले 38 km की दूरी 30 मिनट में तय करता है। पूरी यात्रा में उसकी औसत चाल कितनी है?

- Ans 1. 42 km/hr
 2. 49 km/hr
 3. 36 km/hr
 4. 46 km/hr

Question Type : MCQ
Question ID : 264330137326
Option 1 ID : 264330537932
Option 2 ID : 264330537931
Option 3 ID : 264330537934
Option 4 ID : 264330537933
Status : Answered
Chosen Option : 1

Q.18 12 mm व्यास वाले एक वृत्त का क्षेत्रफल कितना होगा?

- Ans 1. $24\pi \text{ mm}^2$
 2. $12\pi \text{ mm}^2$
 3. $36\pi \text{ mm}^2$
 4. $48\pi \text{ mm}^2$

Question Type : MCQ
Question ID : 264330133814
Option 1 ID : 264330524280
Option 2 ID : 264330524281
Option 3 ID : 264330524279
Option 4 ID : 264330524282
Status : Answered
Chosen Option : 3

Q.19 The two adjacent sides of a parallelogram are 12 cm and 5 cm respectively. If one of the diagonals is 13 cm long, then what is the area of the parallelogram?

- Ans 1. 75 cm^2
 2. 30 cm^2
 3. 25 cm^2
 4. 60 cm^2

Question Type : MCQ
Question ID : 264330137888
Option 1 ID : 264330540162
Option 2 ID : 264330540161
Option 3 ID : 264330540159
Option 4 ID : 264330540160
Status : Answered
Chosen Option : 4

Q.20 यदि $(9g + 2h) : (9g - 2h) = 9 : 2$ है, तो $g : h$ का मान क्या है?

- Ans
- 1. 35 : 24
 - 2. 22 : 63
 - 3. 45 : 19
 - 4. 18 : 35

Question Type : MCQ

Question ID : 264330139064

Option 1 ID : 264330544864

Option 2 ID : 264330544865

Option 3 ID : 264330544866

Option 4 ID : 264330544863

Status : Answered

Chosen Option : 2

Section : Reasoning Ability and Problem Solving

Q.1 दी गई श्रृंखला में निम्नलिखित में से कौन-सी संख्या प्रश्न चिन्ह (?) के स्थान पर आएगी?
46, 63, 80, 97, 114, ?

- Ans
- 1. 113
 - 2. 128
 - 3. 126
 - 4. 131

Question Type : MCQ

Question ID : 264330137865

Option 1 ID : 264330540067

Option 2 ID : 264330540069

Option 3 ID : 264330540070

Option 4 ID : 264330540068

Status : Answered

Chosen Option : 4

Q.2 एक निश्चित कूट भाषा में, 'PHONES' को 'NFMLCQ' लिखा जाता है। उस कूट भाषा में 'REALLY' को कैसे लिखा जाएगा?

- Ans
- 1. PCYJJY
 - 2. PCYJJV
 - 3. PCYKKW
 - 4. PCYJJW

Question Type : MCQ

Question ID : 264330138565

Option 1 ID : 264330542869

Option 2 ID : 264330542867

Option 3 ID : 264330542870

Option 4 ID : 264330542868

Status : Answered

Chosen Option : 4

Q.3 छः लड़के राम, सुमित, सुनील, राहुल, राज और अमन एक वृत्ताकार मेज के चारों ओर केंद्र की ओर मुख करके बैठे हैं (परंतु जरूरी नहीं कि वे इसी क्रम में बैठें हों)। सुनील, अमन का निकटतम पड़ोसी नहीं है। अमन, राम के दाईं ओर से दूसरे स्थान पर है। राहुल, सुमित के दाईं ओर से दूसरे स्थान पर है। राज, राम के ठीक बाईं ओर है। राहुल के दाईं ओर से दूसरे स्थान पर कौन है?

- Ans 1. राज
 2. सुनील
 3. अमन
 4. सुमित

Question Type : MCQ

Question ID : 264330138836

Option 1 ID : 264330543952

Option 2 ID : 264330543951

Option 3 ID : 264330543953

Option 4 ID : 264330543954

Status : Answered

Chosen Option : 1

Q.4 आठ लड़के अनिल, कमल, राम, संजय, आकाश, विवेक, राहुल और रामू एक वृत्ताकार मेज के चारों ओर केंद्र की ओर मुख करके बैठे हैं (परंतु जरूरी नहीं कि वे इसी क्रम में बैठें हों)। विवेक, कमल के दाईं ओर से तीसरे स्थान पर है। कमल, संजय के दाईं ओर से दूसरे स्थान पर है। राम, अनिल के दाईं ओर से दूसरे स्थान पर है। अनिल, विवेक के दाईं ओर से दूसरे स्थान पर है। राहुल, आकाश के दाईं ओर से तीसरे स्थान पर है। कमल के दाईं ओर से दूसरे स्थान पर कौन है?

- Ans 1. आकाश
 2. संजय
 3. रामू
 4. विवेक

Question Type : MCQ

Question ID : 264330138837

Option 1 ID : 264330543957

Option 2 ID : 264330543955

Option 3 ID : 264330543956

Option 4 ID : 264330543958

Status : Answered

Chosen Option : 3

Q.5 दिए गए समीकरण को सही करने के लिए किन दो चिन्हों को आपस में बदला जाना चाहिए?
 $11 - 2 \times 16 + 19 = 25$

- Ans 1. - और \times
 2. \times और +
 3. - और +
 4. = और +

Question Type : MCQ

Question ID : 264330134994

Option 1 ID : 264330528911

Option 2 ID : 264330528912

Option 3 ID : 264330528913

Option 4 ID : 264330528914

Status : Answered

Chosen Option : 1

Q.6 (::) के बाईं ओर दिए गए शब्द आपस में किसी तर्क / नियम / संबंध द्वारा संबंधित हैं। समान तर्क / नियम / संबंध के आधार पर दिए गए विकल्पों में से (::) के दाईं ओर लुप्त शब्द / शब्द युग्म को चुनिए।

अखबार : संपादक :: डिज़ाइन : ?

- Ans**
- 1. चिकित्सक
 - 2. अध्यापक
 - 3. नाटककार
 - 4. वास्तुकार

Question Type : **MCQ**

Question ID : **264330138831**

Option 1 ID : **264330543932**

Option 2 ID : **264330543934**

Option 3 ID : **264330543933**

Option 4 ID : **264330543931**

Status : **Answered**

Chosen Option : **4**

Q.7 निम्नलिखित प्रश्न में कुछ कथन दिए गए हैं और उन कथनों के आधार पर कुछ निष्कर्ष दिए गए हैं। आपको यह मानना है कि दिए गए कथन सत्य हैं चाहे वे समान्यतः ज्ञात तथ्यों से अलग प्रतीत होते हों। सभी निष्कर्षों को पढ़िए और फिर निश्चय कीजिए कि दिए गए निष्कर्षों में से कौन-सा निष्कर्ष तार्किक रूप से दिए गए कथनों के अनुसार है।

कथन:

I. सभी P, G हैं।

II. कुछ F, P हैं।

निष्कर्ष:

I. सभी G, P हैं।

II. सभी P, F हैं।

III. कुछ F, G नहीं हैं।

- Ans**
- 1. कोई भी निष्कर्ष कथनों के अनुसार नहीं हैं
 - 2. सभी निष्कर्ष कथनों के अनुसार हैं
 - 3. केवल निष्कर्ष III कथनों के अनुसार है
 - 4. दोनों निष्कर्ष II और III कथनों के अनुसार हैं

Question Type : **MCQ**

Question ID : **264330138840**

Option 1 ID : **264330543968**

Option 2 ID : **264330543969**

Option 3 ID : **264330543967**

Option 4 ID : **264330543970**

Status : **Answered**

Chosen Option : **3**

Q.8 निम्नलिखित प्रश्न में कुछ कथन दिए गए हैं और उन कथनों के आधार पर कुछ निष्कर्ष दिए गए हैं। आपको यह मानना है कि दिए गए कथन सत्य हैं चाहे वे सामान्यतः ज्ञात तथ्यों से अलग प्रतीत होते हों। सभी निष्कर्षों को पढ़िए और फिर निश्चय कीजिए कि दिए गए निष्कर्षों में से कौन-सा निष्कर्ष तार्किक रूप से दिए गए कथनों के अनुसार है।

कथन:

I. सभी U, M हैं।

II सभी G, M हैं।

निष्कर्ष:

I. कुछ G, U हैं।

II कुछ G, M हैं।

Ans

1. केवल निष्कर्ष I कथनों के अनुसार है
2. केवल निष्कर्ष II कथनों के अनुसार है
3. दोनों निष्कर्ष I और II कथनों के अनुसार हैं
4. कोई निष्कर्ष कथनों के अनुसार नहीं है

Question Type : MCQ

Question ID : 264330138839

Option 1 ID : 264330543963

Option 2 ID : 264330543964

Option 3 ID : 264330543965

Option 4 ID : 264330543966

Status : Answered

Chosen Option : 2

Q.9 उस विकल्प को चुनिए जो तीसरी संख्या से ठीक उसी प्रकार संबंधित है जिस प्रकार दूसरी संख्या पहली संख्या से संबंधित है।

169 : 12 :: 81 : ?

Ans

1. 8
2. 7
3. 9
4. 6

Question Type : MCQ

Question ID : 264330137867

Option 1 ID : 264330540078

Option 2 ID : 264330540076

Option 3 ID : 264330540077

Option 4 ID : 264330540075

Status : Answered

Chosen Option : 1

Q.10 निम्नलिखित प्रश्न में, दी गई श्रृंखला में लुप्त संख्या चुनिए ।

2, 6, 14, 30, 62, ?

Ans 1. 128

2. 131

3. 126

4. 130

Question Type : MCQ

Question ID : 264330138842

Option 1 ID : 264330543975

Option 2 ID : 264330543978

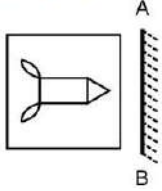
Option 3 ID : 264330543976

Option 4 ID : 264330543977

Status : Answered


Chosen Option : 3

Q.11 दी गई आकृति के उस सही दर्पण प्रतिबिंब को चुनिए जो दर्पण AB को आकृति के दाईं ओर रखने पर बनेगा।

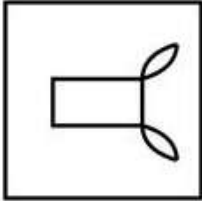


Ans

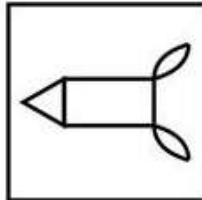
✗ 1.



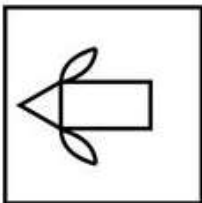
✗ 2.



✓ 3.



✗ 4.



Question Type : MCQ

Question ID : 264330134974

Option 1 ID : 264330528833

Option 2 ID : 264330528832

Option 3 ID : 264330528831

Option 4 ID : 264330528834

Status : Answered

Chosen Option : 3

Q.12 एक श्रृंखला दी गई है जिसमें एक पद लुप्त है। दिए गए विकल्पों में से उस सही विकल्प को चुनिए जो श्रृंखला को पूरा करेगा।

ANTQ, YMRP, ?, UKNN, SJLM

- Ans
- 1. WLPQ
 - 2. XLPO
 - 3. WLQO
 - 4. WLPO

Question Type : MCQ

Question ID : 264330138829

Option 1 ID : 264330543923

Option 2 ID : 264330543925


Option 3 ID : 264330543924

Option 4 ID : 264330543926

Status : Answered

Chosen Option : 4

Q.13 कौन-सी उत्तर आकृति प्रश्न आकृति में दिए गए पैटर्न को पूरा करेगी?



Ans

- 1.
- 2.
- 3.
- 4.

Question Type : MCQ

Question ID : 264330138849

Option 1 ID : 264330544005

Option 2 ID : 264330544006

Option 3 ID : 264330544004

Option 4 ID : 264330544003

Status : Answered

Chosen Option : 1

Q.14 (::) के बाईं ओर दिए गए शब्द आपस में किसी तर्क / नियम / संबंध द्वारा संबंधित हैं। समान तर्क / नियम / संबंध के आधार पर दिए गए विकल्पों में से (::) के दाईं ओर लुप्त शब्द / शब्द युग्म को चुनिए।

तलवार : योद्धा :: ?

Ans

1. औजार : मूर्तिकार
2. राजमिस्त्री : साहुल सूत्र (Plumbline)
3. कुल्हाड़ी : लकड़हारा
4. दर्जी : सुई

Question Type : MCQ

Question ID : 264330138832

Option 1 ID : 264330543936

Option 2 ID : 264330543937

Option 3 ID : 264330543935

Option 4 ID : 264330543938

Status : Answered

Chosen Option : 3

Q.15 छः टंकियों A, B, C, D, E और F की धारिताओं (क्षमता) की तुलना की जाती है। कोई भी दो टंकियों की धारिता समान नहीं है। D की धारिता F और C से अधिक है। A की धारिता केवल B से कम है। टंकियों की धारिताओं के संबंध में निम्नलिखित में से कौन-सा क्रम सही हो सकता है?

I. $A > D > E$

II. $C > F > E$

Ans

1. न तो I और न ही II
2. केवल II
3. केवल I
4. I और II दोनों

Question Type : MCQ

Question ID : 264330138838

Option 1 ID : 264330543962

Option 2 ID : 264330543960

Option 3 ID : 264330543959

Option 4 ID : 264330543961

Status : Answered

Chosen Option : 2

Q.16 एक निश्चित कूट भाषा में, 'HANG' को 'LSFM' लिखा जाता है। उस कूट भाषा में 'GRAW' को कैसे लिखा जाएगा?

Ans

1. BGXK
2. BFWL
3. BFVL
4. CGXL

Question Type : MCQ

Question ID : 264330138504

Option 1 ID : 264330542624

Option 2 ID : 264330542626

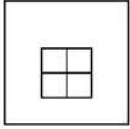
Option 3 ID : 264330542625

Option 4 ID : 264330542623

Status : Answered

Chosen Option : 2


Q.17 उस विकल्प आकृति को चुनिए जिसमें दी गई आकृति (X) उसके भाग के रूप में निहित है (घूर्णन की अनुमति नहीं है)।



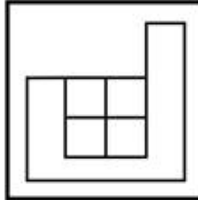
(X)

Ans

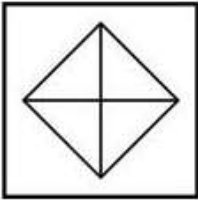
✗ 1.




✓ 2.



✗ 3.



✗ 4.



Question Type : MCQ

Question ID : 264330134973

Option 1 ID : 264330528827

Option 2 ID : 264330528830

Option 3 ID : 264330528828

Option 4 ID : 264330528829

Status : Answered

Chosen Option : 2

Q.18 किन दो संख्याओं को आपस में बदलने पर निम्न समीकरण सही होगा?

$$9 \times 3 \div 6 + 4 - 8 = 1$$

- Ans
- 1. 8 और 9
 - 2. 3 और 6
 - 3. 3 और 4
 - 4. 6 और 8

Question Type : MCQ

Question ID : 264330138845

Option 1 ID : 264330543989

Option 2 ID : 264330543987

Option 3 ID : 264330543988

Option 4 ID : 264330543990

Status : Answered

Chosen Option : 3

Q.19 उस विकल्प को चुनिए जिसमें समुच्चय की संख्याएँ वही संबंध साझा करती हैं जो दिए गए समुच्चय में संख्याओं द्वारा साझा किया जाता है। (ध्यान दें: संख्याओं को उनके घटक अंकों में अलग-अलग किए बिना, पूर्ण संख्याओं पर संक्रियाएँ की जानी चाहिए। उदा. 13 - 13 पर संक्रियाएँ जैसे 13 को जोड़ना /घटाना /गुणा करना आदि किया जा सकता है। 13 को 1 और 3 में अलग-अलग करने की और फिर 1 और 3 पर गणितीय संक्रियाएँ करने की अनुमति नहीं है)

(125, 2, 3)

(512, 5, 3)

- Ans
- 1. (1000, 7, 3)
 - 2. (343, 5, 3)
 - 3. (216, 4, 3)
 - 4. (1782, 8, 6)

Question Type : MCQ

Question ID : 264330138844

Option 1 ID : 264330543983

Option 2 ID : 264330543985

Option 3 ID : 264330543984

Option 4 ID : 264330543986

Status : Answered

Chosen Option : 1

Q.20 एक निश्चित कूट भाषा में, 'TAKES' को '51' लिखा जाता है, 'LEAVE' को '40' लिखा जाता है। उस कूट भाषा में 'TEAM' को कैसे लिखा जाएगा?

- Ans
- 1. 34
 - 2. 49
 - 3. 39
 - 4. 36

Question Type : MCQ

Question ID : 264330137113

Option 1 ID : 264330537098

Option 2 ID : 264330537096

Option 3 ID : 264330537095

Option 4 ID : 264330537097

Status : Answered

Chosen Option : 1

Section : General Awareness

Q.1 भारत में लिंग अनुपात को जनसंख्या में प्रति _____ पर स्त्रियों की संख्या के आधार पर निर्धारित किया जाता है।

- Ans
- 1. 100 बच्चों
 - 2. 1000 पुरुषों
 - 3. 500 पुरुषों
 - 4. 100 पुरुषों

Question Type : MCQ
Question ID : 264330138940
Option 1 ID : 264330544369
Option 2 ID : 264330544368
Option 3 ID : 264330544370
Option 4 ID : 264330544367
Status : Answered
Chosen Option : 2

Q.2 ओलंपिक खेलों में भारत का पहला बैडमिंटन पदक किसने जीता था?

- Ans
- 1. पुलेला गोपीचंद
 - 2. साइना नेहवाल
 - 3. पी.वी.सिंधु
 - 4. प्रकाश पादुकोण

Question Type : MCQ
Question ID : 264330138899
Option 1 ID : 264330544205
Option 2 ID : 264330544204
Option 3 ID : 264330544203
Option 4 ID : 264330544206
Status : Answered
Chosen Option : 3

Q.3 निम्नलिखित में से किसे 'ठुमरी की रानी (Queen of Thumri)' के नाम से सम्मानित किया गया था?

- Ans
- 1. सिद्धेश्वरी देवी
 - 2. अन्नपूर्णा देवी
 - 3. नैना देवी
 - 4. गिरिजा देवी

Question Type : MCQ
Question ID : 264330138902
Option 1 ID : 264330544217
Option 2 ID : 264330544216
Option 3 ID : 264330544218
Option 4 ID : 264330544215
Status : Answered
Chosen Option : 1

Q.4 भारतीय संविधान का अनुच्छेद 43B _____ का प्रावधान करता है।

- Ans
- 1. ग्राम पंचायतों के संगठन
 - 2. कार्यपालिका से न्यायपालिका के पृथक्करण
 - 3. सहकारी समितियों को बढ़ावा देने
 - 4. काम पाने के अधिकार

Question Type : MCQ

Question ID : 264330138908

Option 1 ID : 264330544239

Option 2 ID : 264330544242

Option 3 ID : 264330544241

Option 4 ID : 264330544240

Status : Answered

Chosen Option : 3

Q.5 चावल की खेती के लिए _____ के साथ-साथ अत्याधिक वर्षा की आवश्यकता होती है।

- Ans
- 1. कम तापमान और कम आर्द्रता
 - 2. कम तापमान और अधिक आर्द्रता
 - 3. उच्च तापमान और कम आर्द्रता
 - 4. उच्च तापमान और अधिक आर्द्रता

Question Type : MCQ

Question ID : 264330138288

Option 1 ID : 264330541761

Option 2 ID : 264330541760

Option 3 ID : 264330541759

Option 4 ID : 264330541762

Status : Answered

Chosen Option : 2

Q.6 पद्म सुब्रह्मण्यम को वर्ष _____ में भारतीय शास्त्रीय नृत्य में उनके योगदान के लिए पद्म भूषण पुरस्कार मिला।

- Ans
- 1. 2001
 - 2. 1998
 - 3. 2003
 - 4. 2010

Question Type : MCQ

Question ID : 264330138278

Option 1 ID : 264330541720

Option 2 ID : 264330541719

Option 3 ID : 264330541721

Option 4 ID : 264330541722

Status : Answered

Chosen Option : 2

Q.7 निम्नलिखित में से बंगाल के किस गवर्नर जनरल ने सती प्रथा को गैरकानूनी घोषित किया था?

- Ans
- ✓ 1. विलियम बैंटिक
 - ✗ 2. वारेन हेस्टिंग्स
 - ✗ 3. चार्ल्स कार्नवालिस
 - ✗ 4. चार्ल्स कैनिंग

Question Type : MCQ
Question ID : 264330134659
Option 1 ID : 264330527591
Option 2 ID : 264330527592
Option 3 ID : 264330527593
Option 4 ID : 264330527594
Status : Answered
Chosen Option : 1

Q.8 कौन-सा देश "वोस्तोक 2022(Vostok-2022)" सैन्य अभ्यास का मेजबान है?

- Ans
- ✗ 1. अमेरीका
 - ✗ 2. भारत
 - ✗ 3. संयुक्त अरब अमीरात
 - ✓ 4. रूस

Question Type : MCQ
Question ID : 264330138905
Option 1 ID : 264330544227
Option 2 ID : 264330544229
Option 3 ID : 264330544228
Option 4 ID : 264330544230
Status : Answered
Chosen Option : 4

Q.9 मालगुडी डेज़ (Malgudi Days) _____ की लघु कहानियों का एक संग्रह है।

- Ans
- ✗ 1. अमीश त्रिपाठी
 - ✗ 2. झुंपा लाहिड़ी
 - ✓ 3. आर.के. नारायण
 - ✗ 4. चेतन भगत

Question Type : MCQ
Question ID : 264330138276
Option 1 ID : 264330541712
Option 2 ID : 264330541714
Option 3 ID : 264330541713
Option 4 ID : 264330541711
Status : Answered
Chosen Option : 3

Q.10 निम्नलिखित में से कौन अकबर के बाद भारत में मुगल वंश के सिंहासन पर बैठा?

- Ans
- ✓ 1. जहाँगीर
 - ✗ 2. औरंगजेब
 - ✗ 3. शाहजहाँ
 - ✗ 4. शेरशाह सूरी

Question Type : MCQ
Question ID : 264330137983
Option 1 ID : 264330540542
Option 2 ID : 264330540540
Option 3 ID : 264330540541
Option 4 ID : 264330540539
Status : Answered
Chosen Option : 1

Q.11 सिमोन बाइल्स (Simone Biles) का संबंध किस खेल से है?

- Ans
- ✗ 1. तैराकी
 - ✓ 2. जिम्नास्टिक्स
 - ✗ 3. बैडमिंटन
 - ✗ 4. टेबल टेनिस

Question Type : MCQ
Question ID : 264330134622
Option 1 ID : 264330527444
Option 2 ID : 264330527443
Option 3 ID : 264330527446
Option 4 ID : 264330527445
Status : Answered
Chosen Option : 1

Q.12 राष्ट्रीय आय के मापन की उत्पाद विधि में, हमें _____ के लिए मध्यवर्ती वस्तुओं के मूल्य को घटाना होगा।

- Ans
- ✓ 1. दुहरी गणना को दूर करने
 - ✗ 2. उत्पादन के कारकों का विश्लेषण करने
 - ✗ 3. अधिक खपत से बचने
 - ✗ 4. व्यय के समस्त मूल्य का अनुमान लगाने

Question Type : MCQ
Question ID : 264330138281
Option 1 ID : 264330541731
Option 2 ID : 264330541734
Option 3 ID : 264330541732
Option 4 ID : 264330541733
Status : Answered
Chosen Option : 2

Q.13 बाल विवाह निषेध (संशोधन) विधेयक, 2021 महिलाओं की विवाह की न्यूनतम आयु को बढ़ाकर _____ वर्ष करने का प्रयास करता है।

- Ans
- 1. 18
 - 2. 22
 - 3. 21
 - 4. 25

Question Type : MCQ

Question ID : 264330134645

Option 1 ID : 264330527535

Option 2 ID : 264330527538

Option 3 ID : 264330527536

Option 4 ID : 264330527537

Status : Answered

Chosen Option : 3

Q.14 _____ में स्थित रावण फाड़ी (Ravan Phadi) गुफा पूर्वकालीन चालुक्य शैली स्थापत्यकला का एक उदाहरण है जो अपनी विशिष्ट मूर्तिकला शैली के लिए जानी जाती है।

- Ans
- 1. केरल
 - 2. तमिलनाडु
 - 3. आंध्रप्रदेश
 - 4. कर्नाटक

Question Type : MCQ

Question ID : 264330134648

Option 1 ID : 264330527548

Option 2 ID : 264330527549

Option 3 ID : 264330527547

Option 4 ID : 264330527550

Status : Not Answered

Chosen Option : --

Q.15 निम्नलिखित में से किस ग्रह का कोई उपग्रह नहीं है?

- Ans
- 1. शनि
 - 2. बृहस्पति
 - 3. यूरेनस
 - 4. शुक्र

Question Type : MCQ

Question ID : 264330137977

Option 1 ID : 264330540515

Option 2 ID : 264330540517

Option 3 ID : 264330540518

Option 4 ID : 264330540516

Status : Answered

Chosen Option : 4

Q.16 दंत शल्य चिकित्सा में निश्चेतक (anaesthetic) के रूप में निम्नलिखित में से किस गैस का उपयोग किया जाता है?

Ans 1. हीलियम

2. नाइट्रस ऑक्साइड

3. आर्गन

4. रेडॉन

Question Type : MCQ

Question ID : 264330137974

Option 1 ID : 264330540504

Option 2 ID : 264330540505

Option 3 ID : 264330540506

Option 4 ID : 264330540503

Status : Answered

Chosen Option : 3

Q.17 The period of life, when the body undergoes changes leading to reproductive maturity is called _____.

Ans 1. adolescence

2. cloning

3. budding

4. maturity

Question Type : MCQ

Question ID : 264330138909

Option 1 ID : 264330544243

Option 2 ID : 264330544244

Option 3 ID : 264330544245

Option 4 ID : 264330544246

Status : Answered

Chosen Option : 1

Q.18 The 36th meeting of 'Parliamentary committee on official language' was chaired by _____.

Ans 1. Piyush Goyal

2. Rajnath Singh

3. Narendra Modi

4. Amit Shah

Question Type : MCQ

Question ID : 264330138904

Option 1 ID : 264330544226

Option 2 ID : 264330544225

Option 3 ID : 264330544223

Option 4 ID : 264330544224

Status : Answered

Chosen Option : 3

Q.19 2022 तक कितने देश भारत के साथ अंतर्राष्ट्रीय स्थलीय सीमा साझा करते हैं?

Ans 1. 7

2. 6

3. 5

4. 8

Question Type : MCQ

Question ID : 264330133968

Option 1 ID : 264330524897

Option 2 ID : 264330524896

Option 3 ID : 264330524895

Option 4 ID : 264330524898

Status : Answered

Chosen Option : 1

Q.20 वे पदार्थ जो अपने अंदर से विद्युत्-धारा को प्रवाहित नहीं होने देते, _____ कहलाते हैं।

Ans 1. विद्युत्-रोधक (insulators)

2. संधारित्र (capacitors)

3. चालक (conductors)

4. प्रेरक (inductor)

Question Type : MCQ

Question ID : 264330134635

Option 1 ID : 264330527496

Option 2 ID : 264330527497

Option 3 ID : 264330527495

Option 4 ID : 264330527498

Status : Answered

Chosen Option : 1

Q.21 कार्बिलान कप (Corbillon Cup) निम्नलिखित में से किस खेल से संबंधित है?

Ans 1. गॉल्फ़

2. हॉकी

3. टेबल टेनिस

4. बैडमिंटन

Question Type : MCQ

Question ID : 264330137992

Option 1 ID : 264330540575

Option 2 ID : 264330540578

Option 3 ID : 264330540576

Option 4 ID : 264330540577

Status : Answered

Chosen Option : 1

Q.22 हरे एवं कोमल तने वाले पौधे _____ कहलाते हैं।

- Ans
- 1. वृक्ष (trees)
 - 2. झाड़ियाँ (shrubs)
 - 3. शाक (herbs)
 - 4. आच्छादन (canopy)

Question Type : MCQ
Question ID : 264330134632
Option 1 ID : 264330527485
Option 2 ID : 264330527484
Option 3 ID : 264330527483
Option 4 ID : 264330527486
Status : Answered
Chosen Option : 3

Q.23 सिरका (Vinegar) का रासायनिक नाम क्या है?

- Ans
- 1. ऑक्सैलिक अम्ल
 - 2. लॉरिक अम्ल
 - 3. मैलिक अम्ल
 - 4. ऐसीटिक अम्ल

Question Type : MCQ
Question ID : 264330137976
Option 1 ID : 264330540514
Option 2 ID : 264330540513
Option 3 ID : 264330540512
Option 4 ID : 264330540511
Status : Answered
Chosen Option : 4

Q.24 निम्न में से कौन-सा जानवर भारत में केवल गिर के जंगलों में पाया जाता है?

- Ans
- 1. एशियाई शेर
 - 2. काला तेंदुआ
 - 3. एशियाई चीता
 - 4. हिम तेंदुआ

Question Type : MCQ
Question ID : 264330138914
Option 1 ID : 264330544263
Option 2 ID : 264330544265
Option 3 ID : 264330544264
Option 4 ID : 264330544266
Status : Answered
Chosen Option : 1

Q.25 राजस्थान के किस लोकनृत्य को 'सपेरा नृत्य (Sapera dance)' भी कहा जाता है?

- Ans 1. कालबेलिया
 2. चरी
 3. गैर
 4. घूमर

Question Type : MCQ

Question ID : 264330138896

Option 1 ID : 264330544193

Option 2 ID : 264330544191

Option 3 ID : 264330544194

Option 4 ID : 264330544192

Status : Answered

Chosen Option : 1

Section : English Language and Comprehension

Q.1 Find the part of the given sentence that has an error in it. If there is no error, choose 'No error'.

To treat nightmare disorder, there is a number of medications and therapies.

- Ans 1. of medications and therapies.
 2. To treat nightmare disorder,
 3. there is a number
 4. No error

Question Type : MCQ

Question ID : 264330136849

Option 1 ID : 264330536089

Option 2 ID : 264330536087

Option 3 ID : 264330536088

Option 4 ID : 264330536090

Status : Answered

Chosen Option : 3

Q.2 In the following question, out of the given four alternatives, select the alternative which best expresses the meaning of the Idiom/Phrase.

A blast from the past

- Ans 1. Something powerfully nostalgic
 2.
A competition where the outcome is difficult to judge or predict
 3. An unresolved argument
 4. Punishment for the crime committed in the past

Question Type : MCQ

Question ID : 264330136868

Option 1 ID : 264330536159

Option 2 ID : 264330536162

Option 3 ID : 264330536160

Option 4 ID : 264330536161

Status : Marked For Review

Chosen Option : 3

Q.3 Choose the word that means the same as the given word.

Confirm

- Ans
- 1. Corrosion
 - 2. Corroborate
 - 3. Collision
 - 4. Collaborate

Question Type : **MCQ**
Question ID : **264330134788**
Option 1 ID : **264330528097**
Option 2 ID : **264330528096**
Option 3 ID : **264330528098**
Option 4 ID : **264330528095**
Status : **Answered**
Chosen Option : **3**

Q.4 Choose the incorrectly spelt word.

- Ans
- 1. Neweset
 - 2. Drape
 - 3. Vibe
 - 4. Surround

Question Type : **MCQ**
Question ID : **264330136869**
Option 1 ID : **264330536163**
Option 2 ID : **264330536166**
Option 3 ID : **264330536165**
Option 4 ID : **264330536164**
Status : **Answered**
Chosen Option : **1**

Q.5 Select the most appropriate option to fill in the blank.

What to do in the event of a gas _____.

- Ans
- 1. leak
 - 2. leek
 - 3. lead
 - 4. leer

Question Type : **MCQ**
Question ID : **264330134769**
Option 1 ID : **264330528023**
Option 2 ID : **264330528024**
Option 3 ID : **264330528025**
Option 4 ID : **264330528026**
Status : **Answered**
Chosen Option : **1**

Q.6 Find the part of the given sentence that has an error in it. If there is no error, choose 'No error'.

I particular like that kitten because it has white feet.

- Ans**
- 1. that kitten because it
 - 2. has white feet
 - 3. No error
 - 4. I particular like

Question Type : **MCQ**

Question ID : **264330134450**

Option 1 ID : **264330526772**

Option 2 ID : **264330526773**

Option 3 ID : **264330526774**

Option 4 ID : **264330526771**

Status : **Answered**

Chosen Option : **4**

Q.7 Select the appropriate antonym for the underlined word.

They must have been more than just suspicious of you.

- Ans**
- 1. Queer
 - 2. Doubtful
 - 3. Ambiguous
 - 4. Definitive

Question Type : **MCQ**

Question ID : **264330136866**

Option 1 ID : **264330536154**

Option 2 ID : **264330536151**

Option 3 ID : **264330536152**

Option 4 ID : **264330536153**

Status : **Answered**

Chosen Option : **4**

Q.8 A sentence has been given with a blank to be filled with an appropriate option. Choose the correct alternative.

Snow _____ lightly as everyone was leaving church.

- Ans**
- 1. fallen
 - 2. falling
 - 3. is falling
 - 4. was falling

Question Type : **MCQ**

Question ID : **264330134778**

Option 1 ID : **264330528061**

Option 2 ID : **264330528060**

Option 3 ID : **264330528062**

Option 4 ID : **264330528059**

Status : **Answered**

Chosen Option : **1**

Q.9 Find the part of the given sentence that has an error in it. If there is no error, choose 'No error'.

There is no big deal if she didn't came to the party.

Ans ✓ 1. came to the party.

✗ 2. No error

✗ 3. There is no big

✗ 4. deal if she didn't

Question Type : **MCQ**

Question ID : **264330136873**

Option 1 ID : **264330536181**

Option 2 ID : **264330536182**

Option 3 ID : **264330536179**

Option 4 ID : **264330536180**

Status : **Answered**

Chosen Option : **1**

Q.10 Select the most appropriate meaning of the given idiom.

Against the clock

Ans ✗ 1. To take on a task that is a way to big

✗ 2. On the point of achievement

✓ 3. Rushed and short on time

✗ 4. To avoid talking

Question Type : **MCQ**

Question ID : **264330136529**

Option 1 ID : **264330534857**

Option 2 ID : **264330534856**

Option 3 ID : **264330534855**

Option 4 ID : **264330534858**

Status : **Answered**

Chosen Option : **3**

Q.11 Choose the sentence with no spelling error.

Ans ✗ 1. His grip tightned a fraction on her arm.

✗ 2. His grip tightend a fractoin on her arm.

✗ 3. His gripe tightened a fracton on her arm.

✓ 4. His grip tightened a fraction on her arm.

Question Type : **MCQ**

Question ID : **264330134768**

Option 1 ID : **264330528019**

Option 2 ID : **264330528022**

Option 3 ID : **264330528020**

Option 4 ID : **264330528021**

Status : **Answered**

Chosen Option : **4**

Q.12 Improve the underlined part of the sentence. Choose 'No improvement' as an answer if the sentence is grammatically correct.

MLA is a representative electing by the voters of a constituency to the legislature.

- Ans**
- 1. elected by a
 - 2. elected by the
 - 3. elects by a
 - 4. No improvement

Question Type : **MCQ**
Question ID : **264330136878**
Option 1 ID : **264330536200**
Option 2 ID : **264330536199**
Option 3 ID : **264330536201**
Option 4 ID : **264330536202**
Status : **Answered**
Chosen Option : **2**

Q.13 Choose the word that is opposite in meaning to the given word.

Abolish

- Ans**
- 1. Efface
 - 2. Formalize
 - 3. Deface
 - 4. Jettison

Question Type : **MCQ**
Question ID : **264330134789**
Option 1 ID : **264330528099**
Option 2 ID : **264330528100**
Option 3 ID : **264330528101**
Option 4 ID : **264330528102**
Status : **Answered**
Chosen Option : **2**

Q.14 Select the most appropriate option to fill in the blank.

She was moving slowly and _____ yesterday when she fell.

- Ans**
- 1. firmly
 - 2. vaguely
 - 3. strongly
 - 4. shakily

Question Type : **MCQ**
Question ID : **264330136872**
Option 1 ID : **264330536175**
Option 2 ID : **264330536176**
Option 3 ID : **264330536177**
Option 4 ID : **264330536178**
Status : **Answered**
Chosen Option : **4**

Q.15 A sentence has been given with a blank to be filled with an appropriate option. Choose the correct alternative.

Satya Nadella completed his primary education _____ Hyderabad Public School, Begumpet.

- Ans**
- ✓ 1. from
 - ✗ 2. over
 - ✗ 3. by
 - ✗ 4. onto

Question Type : **MCQ**
Question ID : **264330136853**
Option 1 ID : **264330536105**
Option 2 ID : **264330536103**
Option 3 ID : **264330536104**
Option 4 ID : **264330536106**
Status : **Answered**
Chosen Option : **1**

Q.16 Choose the word that can substitute the given group of words.

Beginning to exist; recently formed or developed

- Ans**
- ✗ 1. Herald
 - ✗ 2. Blasphemy
 - ✗ 3. Knave
 - ✓ 4. Nascent

Question Type : **MCQ**
Question ID : **264330136862**
Option 1 ID : **264330536138**
Option 2 ID : **264330536136**
Option 3 ID : **264330536135**
Option 4 ID : **264330536137**
Status : **Answered**
Chosen Option : **3**

Q.17 Select the appropriate synonym for the underlined word.

In the absence of miracles, my frustration spikes.

- Ans**
- ✓ 1. Increases
 - ✗ 2. Falls
 - ✗ 3. Losses
 - ✗ 4. Digs

Question Type : **MCQ**
Question ID : **264330136863**
Option 1 ID : **264330536141**
Option 2 ID : **264330536139**
Option 3 ID : **264330536140**
Option 4 ID : **264330536142**
Status : **Answered**
Chosen Option : **1**

Q.18 Improve the underlined part of the sentence. Choose 'No improvement' as an answer if the sentence is grammatically correct.

The day are warm, so the students ate their lunch outside.

- Ans**
- 1. was warm
 - 2. was warming
 - 3. No improvement
 - 4. is warm

Question Type : **MCQ**
Question ID : **264330136876**
Option 1 ID : **264330536193**
Option 2 ID : **264330536192**
Option 3 ID : **264330536194**
Option 4 ID : **264330536191**
Status : **Answered**
Chosen Option : **1**

Q.19 Improve the underlined part of the sentence. Choose 'No improvement' as an answer if the sentence is grammatically correct.

Don't try to force the window open, or you might broken it.

- Ans**
- 1. you might breaks
 - 2. you have break
 - 3. No improvement
 - 4. you might break

Question Type : **MCQ**
Question ID : **264330135312**
Option 1 ID : **264330530159**
Option 2 ID : **264330530161**
Option 3 ID : **264330530162**
Option 4 ID : **264330530160**
Status : **Answered**
Chosen Option : **4**

Q.20 Select the most appropriate word for the given group of words.

Extreme physical or mental sufferings

- Ans**
- 1. Aviary
 - 2. Autonomy
 - 3. Autocracy
 - 4. Agony

Question Type : **MCQ**
Question ID : **264330136523**
Option 1 ID : **264330534834**
Option 2 ID : **264330534832**
Option 3 ID : **264330534833**
Option 4 ID : **264330534831**
Status : **Answered**
Chosen Option : **4**

Comprehension:

In the following passage some of the words have been deleted. Read the passage carefully and select the correct answer for the given blank out of the four alternatives.

"I am proud to (1) _____ to a religion which has taught the world both tolerance (2) _____ universal acceptance," he declared (3) _____ September 11, 1893. "We believe not only in universal toleration, (4) _____ we accept all religions as true. I am proud to belong to a nation which has sheltered the persecuted and the (5) _____ of all religions and all nations of the earth."

SubQuestion No : 21

Q.21 Select the most appropriate option to fill in blank number 1.

- Ans**
- 1. behest
 - 2. gain
 - 3. belong
 - 4. live

Question Type : **MCQ**
Question ID : **264330134780**
Option 1 ID : **264330528065**
Option 2 ID : **264330528063**
Option 3 ID : **264330528064**
Option 4 ID : **264330528066**
Status : **Answered**
Chosen Option : **3**

Comprehension:

In the following passage some of the words have been deleted. Read the passage carefully and select the correct answer for the given blank out of the four alternatives.

"I am proud to (1) _____ to a religion which has taught the world both tolerance (2) _____ universal acceptance," he declared (3) _____ September 11, 1893. "We believe not only in universal toleration, (4) _____ we accept all religions as true. I am proud to belong to a nation which has sheltered the persecuted and the (5) _____ of all religions and all nations of the earth."

SubQuestion No : 22

Q.22 Select the most appropriate option to fill in blank number 2.

- Ans**
- 1. also
 - 2. and
 - 3. as well as
 - 4. or

Question Type : **MCQ**
Question ID : **264330134781**
Option 1 ID : **264330528067**
Option 2 ID : **264330528068**
Option 3 ID : **264330528070**
Option 4 ID : **264330528069**
Status : **Answered**
Chosen Option : **2**

Comprehension:

In the following passage some of the words have been deleted. Read the passage carefully and select the correct answer for the given blank out of the four alternatives.

"I am proud to (1) _____ to a religion which has taught the world both tolerance (2) _____ universal acceptance," he declared (3) _____ September 11, 1893. "We believe not only in universal toleration, (4) _____ we accept all religions as true. I am proud to belong to a nation which has sheltered the persecuted and the (5) _____ of all religions and all nations of the earth."

SubQuestion No : 23

Q.23 Select the most appropriate option to fill in blank number 3.

- Ans**
- 1. on
 - 2. upon
 - 3. in
 - 4. at

Question Type : **MCQ**
Question ID : **264330134782**
Option 1 ID : **264330528073**
Option 2 ID : **264330528072**
Option 3 ID : **264330528074**
Option 4 ID : **264330528071**
Status : **Answered**
Chosen Option : 1

Comprehension:

In the following passage some of the words have been deleted. Read the passage carefully and select the correct answer for the given blank out of the four alternatives.

"I am proud to (1) _____ to a religion which has taught the world both tolerance (2) _____ universal acceptance," he declared (3) _____ September 11, 1893. "We believe not only in universal toleration, (4) _____ we accept all religions as true. I am proud to belong to a nation which has sheltered the persecuted and the (5) _____ of all religions and all nations of the earth."

SubQuestion No : 24

Q.24 Select the most appropriate option to fill in blank number 4.

- Ans**
- 1. yet
 - 2. though
 - 3. and
 - 4. but

Question Type : **MCQ**
Question ID : **264330134783**
Option 1 ID : **264330528077**
Option 2 ID : **264330528075**
Option 3 ID : **264330528078**
Option 4 ID : **264330528076**
Status : **Answered**
Chosen Option : 2

Comprehension:

In the following passage some of the words have been deleted. Read the passage carefully and select the correct answer for the given blank out of the four alternatives.

"I am proud to (1) _____ to a religion which has taught the world both tolerance (2) _____ universal acceptance," he declared (3) _____ September 11, 1893. "We believe not only in universal toleration, (4) _____ we accept all religions as true. I am proud to belong to a nation which has sheltered the persecuted and the (5) _____ of all religions and all nations of the earth."

SubQuestion No : 25

Q.25 Select the most appropriate option to fill in blank number 5.

- Ans**
- 1. workers
 - 2. refugees
 - 3. peons
 - 4. toilers

Question Type : **MCQ**

Question ID : **264330134784**

Option 1 ID : **264330528079**

Option 2 ID : **264330528081**

Option 3 ID : **264330528080**

Option 4 ID : **264330528082**

Status : **Answered**

Chosen Option : **2**

Multi Tasking Non Technical Staff and Havaladar CBIC and CBN Examination 2022

Roll Number	KD Job Updates
Candidate Name	KD Job Updates
Venue Name	Maa Santoshi Computers Pvt. Ltd.
Exam Date	04/05/2023
Exam Time	3:30 PM - 5:00 PM
Subject	MTS Non Tech Havaladar CBIC and CBN Examination 2022

Section : Numerical and Mathematical Ability

Q.1 एक आदमी ने Rs.2200 में एक पुराना प्रिंटर खरीदा और उसकी मरम्मत पर Rs.800 खर्च किए। उसने इसे Rs.3600 में बेच दिया। उसका लाभ प्रतिशत ज्ञात कीजिए।

- Ans
- 1. 20%
 - 2. 30%
 - 3. 25%
 - 4. 15%

Question Type : MCQ

Question ID : 264330141018

Option 1 ID : 264330552421

Option 2 ID : 264330552420

Option 3 ID : 264330552422

Option 4 ID : 264330552419

Status : Answered

Chosen Option : 1

Q.2 एक हवाई जहाज 400 km/hr की चाल से एक निश्चित दूरी 8 घंटे में तय करता है। समान दूरी को 5 घंटे में तय करने के लिए हवाई जहाज की चाल कितनी होनी चाहिए?

- Ans
- 1. 580 km/hr
 - 2. 680 km/hr
 - 3. 640 km/hr
 - 4. 600 km/hr

Question Type : MCQ

Question ID : 264330138713

Option 1 ID : 264330543459

Option 2 ID : 264330543462

Option 3 ID : 264330543461

Option 4 ID : 264330543460

Status : Answered

Chosen Option : 3

Q.3 एक विद्यालय के छात्रावास में 90 छात्रों की दूध की मासिक खपत 183 लीटर है। यदि दूध का मासिक राशन बढ़ाकर 915 लीटर कर दिया जाए, तो छात्रावास में कितने छात्रों को ठहराया जा सकता है? (यह मानते हुए कि प्रति व्यक्ति दूध की खपत वही रहती है)

- Ans
- 1. 550
 - 2. 450
 - 3. 250
 - 4. 350

Question Type : MCQ

Question ID : 264330138710

Option 1 ID : 264330543450

Option 2 ID : 264330543448

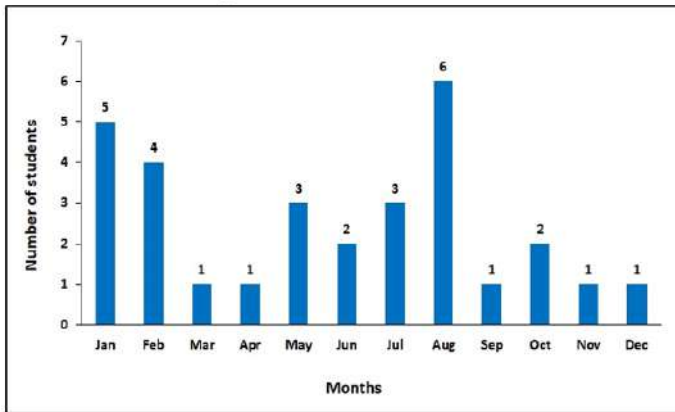
Option 3 ID : 264330543449

Option 4 ID : 264330543447

Status : Answered

Chosen Option : 2

Q.4 निम्नलिखित दंड आलेख में एक कक्षा के 30 छात्रों के जन्मदिन के महीनों को दर्शाया गया है। कितने छात्रों का जन्मदिन जुलाई-नवंबर के दौरान आता है?



Number of students - छात्रों की संख्या, Months - महीने, Jan - जनवरी, Feb - फरवरी,

Mar - मार्च, Apr - अप्रैल, May -मई, Jun - जून, Jul - जुलाई, Aug - अगस्त, Sep - सितम्बर

Oct - अक्टूबर, Nov - नवंबर, Dec - दिसंबर

- Ans
- 1. 8
 - 2. 13
 - 3. 10
 - 4. 15

Question Type : MCQ

Question ID : 264330138717

Option 1 ID : 264330543475

Option 2 ID : 264330543477

Option 3 ID : 264330543476

Option 4 ID : 264330543478

Status : Answered

Chosen Option : 2

Q.5 एक वस्तु के मूल्य में 5% की वृद्धि करने पर, उसकी बिक्री 10% घट जाती है। मुनाफे पर निवल प्रभाव कितना था?

- Ans
- 1. 5% की कमी
 - 2. 5.5% की कमी
 - 3. 5% की वृद्धि
 - 4. 5.5% की वृद्धि

Question Type : MCQ

Question ID : 264330138705

Option 1 ID : 264330543430

Option 2 ID : 264330543429

Option 3 ID : 264330543427

Option 4 ID : 264330543428

Status : Answered

Chosen Option : 2

Q.6 यदि 8 आदमी प्रतिदिन 8 घंटे काम करके 8 दिनों में 64 कुर्सियाँ बनाते हैं, तो 4 आदमी प्रतिदिन 4 घंटे काम करके 4 दिनों में कितनी कुर्सियाँ बनाएंगे?

- Ans
- 1. 12
 - 2. 6
 - 3. 8
 - 4. 10

Question Type : MCQ

Question ID : 264330137645

Option 1 ID : 264330539188

Option 2 ID : 264330539189

Option 3 ID : 264330539187

Option 4 ID : 264330539190

Status : Answered

Chosen Option : 3

Q.7 20 cm त्रिज्या और 34 cm ऊँचाई वाले बेलन का वक्र पृष्ठीय क्षेत्रफल क्या होगा? ($\pi = 3.14$ का प्रयोग करें)

- Ans
- 1. 4320.6 cm²
 - 2. 4328.98 cm²
 - 3. 4270.4 cm²
 - 4. 3245.7 cm²

Question Type : MCQ

Question ID : 264330133755

Option 1 ID : 264330524044

Option 2 ID : 264330524046

Option 3 ID : 264330524043

Option 4 ID : 264330524045

Status : Answered

Chosen Option : 3

Q.8 एक समानुपात के प्रथम, तृतीय और चतुर्थ पद क्रमशः 8, 16 और 6 है। द्वितीय पद क्या है?

- Ans 1. 3
 2. 6
 3. 8
 4. 12

Question Type : MCQ

Question ID : 264330138709

Option 1 ID : 264330543445

Option 2 ID : 264330543446

Option 3 ID : 264330543443

Option 4 ID : 264330543444

Status : Answered

Chosen Option : 1

Q.9 $\frac{156}{13} \times \frac{147}{24} \times \frac{8}{49}$ of $\frac{24}{144}$ का मान क्या है?

- Ans 1. 6
 2. 12
 3. 18
 4. 2

Question Type : MCQ

Question ID : 264330137890

Option 1 ID : 264330540168

Option 2 ID : 264330540169

Option 3 ID : 264330540170

Option 4 ID : 264330540167

Status : Answered

Chosen Option : 4

Q.10 प्रिया ने 12% वार्षिक दर पर एक निश्चित धनराशि ऋण पर ली। यदि उसने 2 वर्षों के अंत में वार्षिक रूप से संयोजित व्याज के रूप में Rs.10176 की राशि का भुगतान किया, तो उसके द्वारा ऋण पर ली गई धनराशि कितनी थी?

- Ans 1. Rs. 50000
 2. Rs. 30000
 3. Rs. 40000
 4. Rs. 20000

Question Type : MCQ

Question ID : 264330138712

Option 1 ID : 264330543455

Option 2 ID : 264330543457

Option 3 ID : 264330543456

Option 4 ID : 264330543458

Status : Answered

Chosen Option : 3

Q.11 एक व्यक्ति ने एक वस्तु को Rs. 33750 में बेचा और उसे 25% की हानि हुई। 25% का लाभ अर्जित करने के लिए उसे वस्तु को किस मूल्य पर बेचना चाहिए?

- Ans
- 1. Rs. 40850
 - 2. Rs. 56250
 - 3. Rs. 45000
 - 4. Rs. 52450

Question Type : MCQ
Question ID : 264330138707
Option 1 ID : 264330543437
Option 2 ID : 264330543436
Option 3 ID : 264330543435
Option 4 ID : 264330543438
Status : Answered
Chosen Option : 2

Q.12 एक ठोस बेलन, जिसकी आधार की त्रिज्या 21 cm और ऊँचाई 16 cm है, को इसकी ऊँचाई से समद्विभाजित करके दो समरूप बेलन प्राप्त किए जाते हैं। कुल पृष्ठीय क्षेत्रफल में कितने प्रतिशत की वृद्धि होगी?

- Ans
- 1. 62.34 प्रतिशत
 - 2. 56.76 प्रतिशत
 - 3. 48.88 प्रतिशत
 - 4. 42.52 प्रतिशत

Question Type : MCQ
Question ID : 264330137658
Option 1 ID : 264330539242
Option 2 ID : 264330539241
Option 3 ID : 264330539240
Option 4 ID : 264330539239
Status : Not Answered
Chosen Option : --

Q.13 $34 - [28 - \{12 - (8 - 2 - 3)\}]$ को सरल कीजिए।

- Ans
- 1. 34
 - 2. 28
 - 3. 15
 - 4. 19

Question Type : MCQ
Question ID : 264330138699
Option 1 ID : 264330543405
Option 2 ID : 264330543406
Option 3 ID : 264330543404
Option 4 ID : 264330543403
Status : Answered
Chosen Option : 3

Q.14 एक कार पहले घंटे में 80 km और दूसरे घंटे में 70 km की यात्रा करती है। कार की औसत चाल क्या है?

- Ans 1. 75 km/hr
 2. 100 km/hr
 3. 150 km/hr
 4. 80 km/hr

Question Type : MCQ

Question ID : 264330141002

Option 1 ID : 264330552358

Option 2 ID : 264330552356

Option 3 ID : 264330552355

Option 4 ID : 264330552357

Status : Answered

Chosen Option : 1

Q.15 Rs. 600 की धनराशि पर 3% वार्षिक दर पर साधारण ब्याज के रूप में Rs. 54 प्राप्त करने में कितना समय लगेगा?

- Ans 1. 1 वर्ष
 2. 4 वर्ष
 3. 2 वर्ष
 4. 3 वर्ष

Question Type : MCQ

Question ID : 264330133826

Option 1 ID : 264330524327

Option 2 ID : 264330524330

Option 3 ID : 264330524328

Option 4 ID : 264330524329

Status : Answered

Chosen Option : 4

Q.16 $56 \div 8 \times 3 + 30 - 25 \div 5 + 10$ का मान ज्ञात कीजिए।

- Ans 1. 56
 2. 54
 3. 50
 4. 48

Question Type : MCQ

Question ID : 264330138391

Option 1 ID : 264330542174

Option 2 ID : 264330542171

Option 3 ID : 264330542172

Option 4 ID : 264330542173

Status : Answered

Chosen Option : 1

Q.17 एक सौदे में, कार विक्रेता ने एक ग्राहक को 1% का बट्टा दिया। यदि दिया जा रहा बट्टा Rs. 4000 था, तो कार का विक्रय मूल्य क्या है?

- Ans
- 1. Rs. 395600
 - 2. Rs. 388500
 - 3. Rs. 396000
 - 4. Rs. 380500

Question Type : MCQ

Question ID : 264330138708

Option 1 ID : 264330543440

Option 2 ID : 264330543441

Option 3 ID : 264330543442

Option 4 ID : 264330543439

Status : Answered

Chosen Option : 3

Q.18 निम्नलिखित तालिका में सोमवार, मंगलवार और बुधवार को विभिन्न वाहनों द्वारा तय की गई दूरी को (km में) दर्शाया गया है। वाहन A द्वारा तय की गई कुल दूरी ज्ञात कीजिए।

Vehicle	Monday	Tuesday	Wednesday
A	100	274	320
B	210	330	410
C	140	450	500
D	220	156	180
E	242	188	190

Vehicle - वाहन, Monday - सोमवार, Tuesday - मंगलवार, Wednesday - बुधवार

- Ans
- 1. 880 km
 - 2. 694 km
 - 3. 710 km
 - 4. 688 km

Question Type : MCQ

Question ID : 264330138407

Option 1 ID : 264330542238

Option 2 ID : 264330542236

Option 3 ID : 264330542235

Option 4 ID : 264330542237

Status : Answered

Chosen Option : 2

Q.19 रिया अकेले किसी कार्य को 6 दिनों में पूरा कर सकती है जबकि सिया अकेले उसी कार्य को 9 दिनों में कर सकती है। यदि वे दोनों एक साथ मिलकर कार्य करती हैं, तो कार्य को पूरा होने में कितने दिन लगेंगे?

- Ans
- ✓ 1. 18/5 दिन
 - ✗ 2. 45/13 दिन
 - ✗ 3. 33/17 दिन
 - ✗ 4. 55/16 दिन

Question Type : MCQ
Question ID : 264330133750
Option 1 ID : 264330524023
Option 2 ID : 264330524026
Option 3 ID : 264330524025
Option 4 ID : 264330524024
Status : Answered
Chosen Option : 1

Q.20 यदि 40 kg भार वाले एक लड़के के स्थान पर एक नए लड़के को समूह में शामिल करने पर 10 लड़कों के औसत भार में 3 kg की वृद्धि हो जाती है, तो नए लड़के का भार है:

- Ans
- ✗ 1. 45 kg
 - ✗ 2. 40 kg
 - ✗ 3. 80 kg
 - ✓ 4. 70 kg

Question Type : MCQ
Question ID : 264330138702
Option 1 ID : 264330543418
Option 2 ID : 264330543415
Option 3 ID : 264330543416
Option 4 ID : 264330543417
Status : Answered
Chosen Option : 4

Section : Reasoning Ability and Problem Solving

Q.1 छः बाइक T1, T2, T3, T4, T5 और T6 की चाल की तुलना की जाती है। T6 की चाल केवल तीन बाइक से अधिक है। कोई भी दो बाइक की चाल समान नहीं है। T4 की चाल T2 से अधिक लेकिन T6 से कम है। T3 की चाल T5 से कम नहीं है। T2 और T5 की चाल सबसे कम नहीं है। कितनी बाइक की चाल T3 से कम है?

- Ans
- ✗ 1. 0
 - ✓ 2. 5
 - ✗ 3. 1
 - ✗ 4. 3

Question Type : MCQ
Question ID : 264330138570
Option 1 ID : 264330542888
Option 2 ID : 264330542887
Option 3 ID : 264330542889
Option 4 ID : 264330542890
Status : Answered
Chosen Option : 2

Q.2 एक निश्चित कूट भाषा में, 'BADAM' को '69760' लिखा जाता है, 'JBDN' को '0849' लिखा जाता है, 'CANDY' को '39654' लिखा जाता है। उस कूट भाषा में 'B' को कैसे लिखा जाएगा?

- Ans
- 1. 9
 - 2. 6
 - 3. 0
 - 4. 4

Question Type : MCQ

Question ID : 264330135620

Option 1 ID : 264330531381

Option 2 ID : 264330531382

Option 3 ID : 264330531380

Option 4 ID : 264330531379

Status : Answered

Chosen Option : 3

Q.3 किन दो चिन्हों को आपस में बदलने पर, दिए गए समीकरण का मान '1' होगा?

$$12 \times 6 - 28 + 3 \div 9$$

- Ans
- 1. \div और \times
 - 2. $+$ और $-$
 - 3. \times और $-$
 - 4. \times और $+$

Question Type : MCQ

Question ID : 264330138577

Option 1 ID : 264330542917

Option 2 ID : 264330542916

Option 3 ID : 264330542915

Option 4 ID : 264330542918

Status : Answered

Chosen Option : 1

Q.4 उस विकल्प को चुनिए जिसमें समुच्चय की संख्याएँ वही संबंध साझा करती हैं जो दिए गए समुच्चय में संख्याओं द्वारा साझा किया जाता है। (ध्यान दें: संख्याओं को उनके घटक अंकों में अलग-अलग किए बिना, पूर्ण संख्याओं पर संक्रियाएँ की जानी चाहिए। उदा. 13 - 13 पर संक्रियाएँ जैसे 13 को जोड़ना /घटाना /गुणा करना आदि किया जा सकता है। 13 को 1 और 3 में अलग-अलग करने और फिर 1 और 3 पर गणितीय संक्रियाएँ करने की अनुमति नहीं है।)

(4, 64, 4)

(5, 100, 5)

- Ans
- 1. (25, 100, 4)
 - 2. (10, 200, 10)
 - 3. (6, 196, 6)
 - 4. (8, 256, 8)

Question Type : MCQ

Question ID : 264330138576

Option 1 ID : 264330542914

Option 2 ID : 264330542913

Option 3 ID : 264330542911

Option 4 ID : 264330542912

Status : Answered

Chosen Option : 4

Q.5 निम्नलिखित प्रश्न में, दी गई श्रृंखला में लुप्त संख्या को चुनिए ।

164, 139, 114, 89, 64,?

Ans 1. 49

2. 40

3. 29

4. 39

Question Type : MCQ

Question ID : 264330138573

Option 1 ID : 264330542902

Option 2 ID : 264330542899

Option 3 ID : 264330542901

Option 4 ID : 264330542900

Status : Answered

Chosen Option : 4

Q.6 एक श्रृंखला दी गई है जिसमें एक पद लुप्त है। दिए गए विकल्पों में से उस सही विकल्प को चुनिए जो श्रृंखला को पूरा करेगा।

TABC, QCYE, NEVG, KGSI,?

Ans 1. HIPK

2. HJPL

3. GIPK

4. HIQK

Question Type : MCQ

Question ID : 264330138561

Option 1 ID : 264330542852

Option 2 ID : 264330542853

Option 3 ID : 264330542851

Option 4 ID : 264330542854

Status : Answered

Chosen Option : 1

Q.7 उस विकल्प को चुनिए जो चौथे पद से ठीक उसी प्रकार संबंधित है जिस प्रकार पहला पद दूसरे पद से संबंधित है और पाँचवाँ पद छठे पद से संबंधित है।

ARB : ZPY :: ? : XVD :: PIN : LGN

Ans 1. EXZ

2. FXZ

3. FYZ

4. EYZ

Question Type : MCQ

Question ID : 264330138563

Option 1 ID : 264330542860

Option 2 ID : 264330542859


Option 3 ID : 264330542861

Option 4 ID : 264330542862

Status : Answered

Chosen Option : 2

Q.8 यदि एक दर्पण को रेखा AB पर रखा जाए, तो दी गई विकल्प आकृतियों में से कौन-सी आकृति प्रश्न आकृति का सही प्रतिबिम्ब होगी?



Ans

✓ 1.



✗ 2.



✗ 3.



✗ 4.



Question Type : MCQ

Question ID : 264330138517

Option 1 ID : 264330542677

Option 2 ID : 264330542678

Option 3 ID : 264330542676

Option 4 ID : 264330542675

Status : Answered

Chosen Option : 1

Q.9 एक निश्चित कूट भाषा में, 'FOUR' को '6PV18' लिखा जाता है। उस कूट भाषा में 'DARK' को कैसे लिखा जाएगा?

Ans ✓ 1. 4BS11

✗ 2. 4B1S1

✗ 3. 4SB11

✗ 4. 4BS12

Question Type : MCQ

Question ID : 264330138812

Option 1 ID : 264330543856

Option 2 ID : 264330543855

Option 3 ID : 264330543858

Option 4 ID : 264330543857

Status : Answered

Chosen Option : 1

Q.10 आठ शिक्षक अनिल, कमल, राम, संजय, आकाश, विवेक, राहुल और रामू एक वृत्ताकार मेज के चारों ओर केंद्र की ओर मुख करके बैठे हैं (परंतु जरूरी नहीं कि वे इसी क्रम में बैठें हों)। रामू, राम के बाईं ओर से तीसरे स्थान पर है। विवेक, राम के दाईं ओर से तीसरे स्थान पर है। आकाश, अनिल के ठीक दाईं ओर है। संजय, राम या रामू का निकटतम पड़ोसी नहीं है। राहुल, अनिल के बाईं ओर से दूसरे स्थान पर है। कमल के बाईं ओर से दूसरे स्थान पर कौन है?

- Ans**
- 1. राम
 - 2. राहुल
 - 3. आकाश
 - 4. रामू

Question Type : **MCQ**

Question ID : **264330138569**

Option 1 ID : **264330542886**

Option 2 ID : **264330542884**

Option 3 ID : **264330542883**

Option 4 ID : **264330542885**

Status : **Answered**

Chosen Option : **3**

Q.11 एक निश्चित कूट भाषा में, 'PROFIT' को 'VIHOTP' लिखा जाता है। उस कूट भाषा में 'RACING' को कैसे लिखा जाएगा?

- Ans**
- 1. INKCRC
 - 2. INKCCR
 - 3. ILNCCR
 - 4. INKRCC

Question Type : **MCQ**

Question ID : **264330135599**

Option 1 ID : **264330531295**

Option 2 ID : **264330531297**

Option 3 ID : **264330531296**

Option 4 ID : **264330531298**

Status : **Answered**

Chosen Option : **2**

Q.12 निम्नलिखित प्रश्न में कुछ कथन दिए गए हैं और उन कथनों के आधार पर कुछ निष्कर्ष दिए गए हैं। आपको मानना है कि दिए गए कथन सत्य हैं चाहे वे समान्यतः जात तथ्यों से अलग प्रतीत होते हों। सभी निष्कर्षों को पढ़िए और फिर निश्चय कीजिए कि दिए गए निष्कर्षों में से कौन-सा निष्कर्ष तार्किक रूप से दिए गए कथनों के अनुसार है।

कथन:

- I. कुछ L, M हैं।
- II. सभी G, M हैं।

निष्कर्ष:

- I. कोई भी G, L नहीं है।
- II. कोई भी M, L नहीं है।
- III. कुछ M, G हैं।

- Ans**
- 1. दोनों निष्कर्ष I और III कथनों के अनुसार हैं
 - 2. केवल निष्कर्ष III कथनों के अनुसार है
 - 3. केवल निष्कर्ष II कथनों के अनुसार है
 - 4. दोनों निष्कर्ष I और II कथनों के अनुसार हैं

Question Type : MCQ

Question ID : 264330138572

Option 1 ID : 264330542897

Option 2 ID : 264330542896

Option 3 ID : 264330542895

Option 4 ID : 264330542898

Status : Answered

Chosen Option : 2

Q.13 दिए गए समीकरण को सही करने के लिए किन दो चिन्हों को आपस में बदला जाना चाहिए?
 $8 + 9 \div 5 \times 4 - 2 = 7$

- Ans**
- 1. - और =
 - 2. + और -
 - 3. \div और -
 - 4. = और +

Question Type : MCQ

Question ID : 264330133542

Option 1 ID : 264330523200

Option 2 ID : 264330523202

Option 3 ID : 264330523199

Option 4 ID : 264330523201

Status : Answered

Chosen Option : 3

Q.14 उस विकल्प को चुनिए जो पाँचवें पद से ठीक उसी प्रकार संबंधित है जिस प्रकार दूसरा पद पहले पद से संबंधित है और चौथा पद तीसरे पद से संबंधित है।

TR4 : XC64 :: AC3 : EN27 :: FP6 : ?

Ans ✓ 1. JA216

✗ 2. JB125

✗ 3. JA125

✗ 4. JB216

Question Type : MCQ

Question ID : 264330138564

Option 1 ID : 264330542865

Option 2 ID : 264330542863

Option 3 ID : 264330542864

Option 4 ID : 264330542866

Status : Answered

Chosen Option : 1

Q.15 निम्नलिखित प्रश्न में कुछ कथन दिए गए हैं और उन कथनों के आधार पर कुछ निष्कर्ष दिए गए हैं। आपको मानना है कि दिए गए कथन सत्य हैं चाहे वे समान्यतः ज्ञात तथ्यों से अलग प्रतीत होते हों। सभी निष्कर्षों को पढ़िए और फिर निश्चय कीजिए कि दिए गए निष्कर्षों में से कौन-सा निष्कर्ष तार्किक रूप से दिए गए कथनों के अनुसार है।

कथन:

I. सभी B, V हैं।

II. सभी K, B हैं।

निष्कर्ष:

I. सभी K, V हैं।

II. कोई भी V, B नहीं है।

Ans ✓ 1. केवल निष्कर्ष I कथनों के अनुसार है

✗ 2. केवल निष्कर्ष II कथनों के अनुसार है

✗ 3. दोनों निष्कर्ष I और II कथनों के अनुसार हैं

✗ 4. कोई भी निष्कर्ष कथनों के अनुसार नहीं है

Question Type : MCQ

Question ID : 264330138571

Option 1 ID : 264330542891

Option 2 ID : 264330542892

Option 3 ID : 264330542893

Option 4 ID : 264330542894

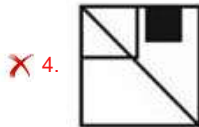
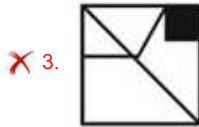
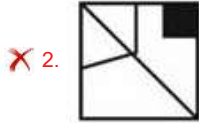
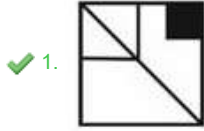
Status : Answered

Chosen Option : 1

Q.16 कौन-सी उत्तर आकृति प्रश्न आकृति में दिए गए पैटर्न को पूरा करेगी?



Ans



Question Type : MCQ

Question ID : 264330138581

Option 1 ID : 264330542931

Option 2 ID : 264330542933

Option 3 ID : 264330542932

Option 4 ID : 264330542934

Status : Answered

Chosen Option : 1

Q.17 निम्नलिखित प्रश्न में, दी गई श्रृंखला में लुप्त संख्या को चुनिए ।

25, 23, 19, 11, -5, ?

Ans ✗ 1. -50

✗ 2. -30

✗ 3. -40

✓ 4. -37

Question Type : MCQ

Question ID : 264330138574

Option 1 ID : 264330542906

Option 2 ID : 264330542903

Option 3 ID : 264330542904

Option 4 ID : 264330542905

Status : Answered

Chosen Option : 4

Q.18 उस विकल्प आकृति को चुनिए जिसमें दी गई आकृति निहित है।(घूर्णन की अनुमति नहीं है)



Ans

✗ 1.



✗ 2.



✓ 3.



✗ 4.



Question Type : MCQ

Question ID : 264330138516

Option 1 ID : 264330542674

Option 2 ID : 264330542672

Option 3 ID : 264330542673

Option 4 ID : 264330542671

Status : Answered

Chosen Option : 3

Q.19 उस विकल्प को चुनिए जो पाँचवीं संख्या से ठीक उसी प्रकार संबंधित है जिस प्रकार दूसरी संख्या पहली संख्या से संबंधित है और चौथी संख्या तीसरी संख्या से संबंधित है।

7 : 125 :: 8 : 216 :: 9 : ?

Ans

✗ 1. 755

✗ 2. 824

✗ 3. 729

✓ 4. 343

Question Type : MCQ

Question ID : 264330138575

Option 1 ID : 264330542909

Option 2 ID : 264330542910

Option 3 ID : 264330542907

Option 4 ID : 264330542908

Status : Answered

Chosen Option : 4

Q.20 छः शिक्षक अनिल, कमल, राम, संजय, आकाश और विवेक एक घुनाकार मेज के चारों ओर केंद्र की ओर मुख करके बैठे हैं(परंतु जरूरी नहीं कि वे इसी क्रम में बैठें हों)। राम, विवेक के दाईं ओर से तीसरे स्थान पर है। विवेक, अनिल के दाईं ओर से दूसरे स्थान पर है। आकाश, अनिल के ठीक दाईं ओर है। कमल, विवेक का निकटतम पड़ोसी नहीं है। संजय के बाईं ओर से दूसरे स्थान पर कौन है?

- Ans**
- 1. आकाश
 - 2. कमल
 - 3. अनिल
 - 4. राम

Question Type : **MCQ**

Question ID : **264330138568**

Option 1 ID : **264330542879**

Option 2 ID : **264330542881**

Option 3 ID : **264330542880**

Option 4 ID : **264330542882**

Status : **Answered**

Chosen Option : **1**

Section : **General Awareness**

Q.1 शिंजो आबे (Shinzo Abe), जिनका हाल ही में निधन हो गया, _____ के प्रधानमंत्री के पद पर रह चुके हैं।

- Ans**
- 1. दक्षिण कोरिया
 - 2. उत्तर कोरिया
 - 3. थाईलैंड
 - 4. जापान

Question Type : **MCQ**

Question ID : **264330138632**

Option 1 ID : **264330543135**

Option 2 ID : **264330543136**

Option 3 ID : **264330543137**

Option 4 ID : **264330543138**

Status : **Answered**

Chosen Option : **4**

Q.2 भारत में "कृषि जनगणना" _____ के अंतराल पर आयोजित की जाती है।

- Ans**
- 1. चार वर्ष
 - 2. छः वर्ष
 - 3. पाँच वर्ष
 - 4. दस वर्ष

Question Type : **MCQ**

Question ID : **264330138633**

Option 1 ID : **264330543139**

Option 2 ID : **264330543141**

Option 3 ID : **264330543140**

Option 4 ID : **264330543142**

Status : **Answered**

Chosen Option : **3**

Q.3 निम्न में से कौन-सा प्रसिद्ध उपन्यास भारतीय लेखक आर. के. नारायण (R. K. Narayan) द्वारा लिखा गया है?

- Ans
- 1. द सूटेबल बॉय (The Suitable boy)
 - 2. हाफ गर्लफ्रेंड (Half Girlfriend)
 - 3. द डार्क रूम (The dark room)
 - 4. अनअकस्टमड अर्थ (Unaccustomed Earth)

Question Type : MCQ
Question ID : 264330135476
Option 1 ID : 264330530814
Option 2 ID : 264330530813
Option 3 ID : 264330530811
Option 4 ID : 264330530812
Status : Answered
Chosen Option : 3

Q.4 राष्ट्रीय जलमार्ग 2 (NW 2) _____ नदी का सदिया-धुबरी खंड है।

- Ans
- 1. ब्रह्मपुत्र
 - 2. गंगा
 - 3. कृष्णा
 - 4. सोन

Question Type : MCQ
Question ID : 264330135468
Option 1 ID : 264330530780
Option 2 ID : 264330530781
Option 3 ID : 264330530782
Option 4 ID : 264330530779
Status : Answered
Chosen Option : 1

Q.5 बैडमिंटन में, डबल्स कोर्ट की लंबाई और चौड़ाई _____ होनी चाहिए।

- Ans
- 1. 12.20 m × 6.20 m
 - 2. 13.40 m × 6.10 m
 - 3. 13.20 m × 6.50 m
 - 4. 13.40 m × 5.20 m

Question Type : MCQ
Question ID : 264330138627
Option 1 ID : 264330543117
Option 2 ID : 264330543116
Option 3 ID : 264330543115
Option 4 ID : 264330543118
Status : Not Answered
Chosen Option : --

Q.6 भारतीय संविधान का भाग IV _____ का प्रावधान करता है।

- Ans
- 1. मौलिक कर्तव्यों
 - 2. राज्य के नीति निदेशक तत्वों
 - 3. मौलिक अधिकारों
 - 4. संघ कार्यकारी

Question Type : MCQ
Question ID : 264330138636
Option 1 ID : 264330543154
Option 2 ID : 264330543153
Option 3 ID : 264330543151
Option 4 ID : 264330543152
Status : Answered
Chosen Option : 2

Q.7 निम्नलिखित में से कौन-सा तैराकी प्रतियोगिता का एक मान्य स्ट्रोक (stroke) नहीं है?

- Ans
- 1. बैक स्ट्रोक (Back stroke)
 - 2. फ्रंट स्ट्रोक (Front stroke)
 - 3. ब्रेस्ट स्ट्रोक (Breast stroke)
 - 4. लेग स्ट्रोक (Leg stroke)

Question Type : MCQ
Question ID : 264330138628
Option 1 ID : 264330543120
Option 2 ID : 264330543119
Option 3 ID : 264330543121
Option 4 ID : 264330543122
Status : Answered
Chosen Option : 1

Q.8 कौन-सा समुदाय नवरोज या नौरोज का त्योहार नव वर्ष के रूप में मनाता है?

- Ans
- 1. बौद्ध
 - 2. जैन
 - 3. सिंधी
 - 4. पारसी

Question Type : MCQ
Question ID : 264330138272
Option 1 ID : 264330541697
Option 2 ID : 264330541696
Option 3 ID : 264330541698
Option 4 ID : 264330541695
Status : Answered
Chosen Option : 2

Q.9 पृथ्वीराज तृतीय ने सन् _____ में अफगान शासक सुल्तान मुहम्मद गोरी को हराया था।

- Ans
- 1. 1192
 - 2. 1291
 - 3. 1292
 - 4. 1191

Question Type : MCQ

Question ID : 264330138646

Option 1 ID : 264330543192

Option 2 ID : 264330543193

Option 3 ID : 264330543194

Option 4 ID : 264330543191

Status : Answered

Chosen Option : 1

Q.10 नाटी (Nati) निम्नलिखित में से किस राज्य का एक लोकनृत्य है?

- Ans
- 1. अरुणाचल प्रदेश
 - 2. हिमाचल प्रदेश
 - 3. आंध्रप्रदेश
 - 4. मध्यप्रदेश

Question Type : MCQ

Question ID : 264330138624

Option 1 ID : 264330543104

Option 2 ID : 264330543105

Option 3 ID : 264330543106

Option 4 ID : 264330543103

Status : Answered

Chosen Option : 1

Q.11 पंडित किशन महाराज एक प्रसिद्ध भारतीय _____ वादक थे।

- Ans
- 1. सारंगी
 - 2. बाँसुरी
 - 3. तबला
 - 4. सितार

Question Type : MCQ

Question ID : 264330138630

Option 1 ID : 264330543129

Option 2 ID : 264330543130

Option 3 ID : 264330543128

Option 4 ID : 264330543127

Status : Not Answered

Chosen Option : --

Q.12 राष्ट्रीय आय लेखांकन में, GVA का अर्थ _____ है।

- Ans
- 1. जनरल विजिटेड अकाउंट (General visited account)
 - 2. ग्रास वैल्यू अकाउंटिंग (Gross value accounting)
 - 3. ग्राँस वैल्यू एडेड (Gross value added)
 - 4. जनरल वेस्टिंग एडेड (General vesting added)

Question Type : MCQ
Question ID : 264330135483
Option 1 ID : 264330530839
Option 2 ID : 264330530841
Option 3 ID : 264330530842
Option 4 ID : 264330530840
Status : Answered
Chosen Option : 3

Q.13 निम्नलिखित में से किस दशक में भारतीय जनसंख्या की वृद्धि दर ऋणात्मक थी?

- Ans
- 1. 1961 - 1971
 - 2. 1941 - 1951
 - 3. 1911 - 1921
 - 4. 1921 - 1931

Question Type : MCQ
Question ID : 264330138890
Option 1 ID : 264330544170
Option 2 ID : 264330544169
Option 3 ID : 264330544167
Option 4 ID : 264330544168
Status : Answered
Chosen Option : 1

Q.14 वे जीव जो पादपों द्वारा संश्लेषित भोजन ग्रहण करते हैं, _____ कहलाते हैं।

- Ans
- 1. विषमपोषी
 - 2. स्वपोषी
 - 3. मृतजीवी
 - 4. प्रकाशपोषी

Question Type : MCQ
Question ID : 264330138637
Option 1 ID : 264330543157
Option 2 ID : 264330543155
Option 3 ID : 264330543158
Option 4 ID : 264330543156
Status : Answered
Chosen Option : 1

Q.15 लोहे पर जिंक की परत चढ़ाने की प्रक्रिया _____ कहलाती है।

- Ans
- 1. निस्संदन
 - 2. यशद-लेपन (गैल्वनीकरण)
 - 3. क्रिस्टलीकरण
 - 4. अवसादन

Question Type : MCQ
Question ID : 264330138640
Option 1 ID : 264330543170
Option 2 ID : 264330543167
Option 3 ID : 264330543169
Option 4 ID : 264330543168
Status : Answered
Chosen Option : 2

Q.16 वायसराय कर्जन (Viceroy Curzon) ने _____ में बंगाल का विभाजन किया।

- Ans
- 1. 1901
 - 2. 1903
 - 3. 1905
 - 4. 1907

Question Type : MCQ
Question ID : 264330138295
Option 1 ID : 264330541787
Option 2 ID : 264330541788
Option 3 ID : 264330541789
Option 4 ID : 264330541790
Status : Answered
Chosen Option : 3

Q.17 पश्चिम बंगाल में, स्थानीय तूफानों को _____ कहा जाता है।

- Ans
- 1. लू (Loo)
 - 2. काल बैशाखी (Kaal Baisakhi)
 - 3. चिन्कू (Chinook)
 - 4. आम वर्षा (Mango showers)

Question Type : MCQ
Question ID : 264330138642
Option 1 ID : 264330543177
Option 2 ID : 264330543175
Option 3 ID : 264330543178
Option 4 ID : 264330543176
Status : Answered
Chosen Option : 2

Q.18 2011 की जनगणना के अनुसार, भारत की कुल जनसंख्या की दृष्टि से उत्तर प्रदेश किस स्थान पर है?

- Ans
- 1. दूसरे
 - 2. चौथे
 - 3. पहले
 - 4. तीसरे

Question Type : MCQ

Question ID : 264330135470

Option 1 ID : 264330530788

Option 2 ID : 264330530790

Option 3 ID : 264330530787

Option 4 ID : 264330530789

Status : Answered

Chosen Option : 3

Q.19 'समृद्धि 2022-23 (SAMRIDDI 2022-23) (Strengthening & Augmentation of Municipal Revenue for Infrastructure Development in Delhi)' योजना के तहत, लोग आवासीय संपत्तियों के लिए वर्तमान और पिछले _____ वर्षों के लंबित कर की केवल मूल राशि का भुगतान कर सकेंगे।

- Ans
- 1. आठ
 - 2. दस
 - 3. पाँच
 - 4. छः

Question Type : MCQ

Question ID : 264330134007

Option 1 ID : 264330525054

Option 2 ID : 264330525051

Option 3 ID : 264330525053

Option 4 ID : 264330525052

Status : Not Answered

Chosen Option : --

Q.20 निम्नलिखित में से क्या कोशिका के तीन मुख्य भागों में से एक नहीं है?

- Ans
- 1. केन्द्रक
 - 2. कोशिका झिल्ली
 - 3. रिक्तिका
 - 4. कोशिका द्रव्य

Question Type : MCQ

Question ID : 264330138638

Option 1 ID : 264330543161

Option 2 ID : 264330543159

Option 3 ID : 264330543162

Option 4 ID : 264330543160

Status : Answered

Chosen Option : 3

Q.21 निम्नलिखित अधिनियमों में से किस अधिनियम ने भारत में ब्रिटिश सरकार और ईस्ट इंडिया कंपनी द्वारा नियंत्रण की दोहरी व्यवस्था स्थापित की?

- Ans
- 1. चार्टर अधिनियम, 1813
 - 2. पिट्स इंडिया एक्ट (Pitt's India Act), 1784
 - 3. चार्टर अधिनियम, 1793
 - 4. मांटैग्यू-चेम्सफोर्ड सुधार (Montague-Chelmsford Reform) (भारत सरकार अधिनियम), 1919

Question Type : MCQ
Question ID : 264330134021
Option 1 ID : 264330525110
Option 2 ID : 264330525107
Option 3 ID : 264330525108
Option 4 ID : 264330525109
Status : Answered
Chosen Option : 2

Q.22 जो बल पृथ्वी की सतह पर उत्पन्न होते हैं उन्हें _____ कहते हैं।

- Ans
- 1. अंतर्जनित बल
 - 2. पारंपरिक बल
 - 3. घर्षण बल
 - 4. बहिर्जनित बल

Question Type : MCQ
Question ID : 264330138639
Option 1 ID : 264330543164
Option 2 ID : 264330543165
Option 3 ID : 264330543166
Option 4 ID : 264330543163
Status : Answered
Chosen Option : 3

Q.23 वज्जि महाजनपद (Vajji Mahajanapada) की राजधानी क्या थी ?

- Ans
- 1. हस्तिनापुर
 - 2. उज्जैन
 - 3. राजगृह
 - 4. वैशाली

Question Type : MCQ
Question ID : 264330138292
Option 1 ID : 264330541776
Option 2 ID : 264330541775
Option 3 ID : 264330541777
Option 4 ID : 264330541778
Status : Answered
Chosen Option : 4

Q.24 मल्लिका साराभाई को वर्ष 2010 में भारत सरकार द्वारा प्रतिष्ठित _____ पुरस्कार से सम्मनित किया गया था।

- Ans
- 1. भारत रत्न
 - 2. ज्ञानपीठ
 - 3. पद्म भूषण
 - 4. पद्म विभूषण

Question Type : MCQ

Question ID : 264330135478

Option 1 ID : 264330530821

Option 2 ID : 264330530822

Option 3 ID : 264330530820

Option 4 ID : 264330530819

Status : Not Answered

Chosen Option : --

Q.25 तंजौर (तंजावुर) में बृहदेश्वर (Brihadeshwara) मंदिर _____ शासकों द्वारा बनवाया गया था।

- Ans
- 1. चोल
 - 2. सोलंकी
 - 3. चंदेल
 - 4. पल्लव

Question Type : MCQ

Question ID : 264330134010

Option 1 ID : 264330525065

Option 2 ID : 264330525064

Option 3 ID : 264330525063

Option 4 ID : 264330525066

Status : Answered

Chosen Option : 1

Section : English Language and Comprehension

Q.1 Fill in the blank with the most appropriate option.

Don't you be clever with me, boy! I want to know what you're really _____ .

- Ans
- 1. up about
 - 2. in to
 - 3. on to
 - 4. up to

Question Type : MCQ

Question ID : 264330136698

Option 1 ID : 264330535510

Option 2 ID : 264330535507

Option 3 ID : 264330535509

Option 4 ID : 264330535508

Status : Answered

Chosen Option : 1

Q.2 Fill in the blank with appropriate word.

His place was _____ in the team after he displayed his explosive batting style.

- Ans 1. cemented
 2. belittled
 3. fermented
 4. affected

Question Type : MCQ
Question ID : 264330136742
Option 1 ID : 264330535675
Option 2 ID : 264330535678
Option 3 ID : 264330535676
Option 4 ID : 264330535677
Status : Answered
Chosen Option : 1

Q.3 Find the part of the given sentence that has an error in it. If there is no error, choose 'No error'.

Improved policing is vitally but not sufficient.

- Ans 1. is vitally but
 2. No error
 3. not sufficient.
 4. Improved policing

Question Type : MCQ
Question ID : 264330134373
Option 1 ID : 264330526476
Option 2 ID : 264330526478
Option 3 ID : 264330526477
Option 4 ID : 264330526475
Status : Answered
Chosen Option : 1

Q.4 Fill in the blank with the most appropriate option.

The first time that nuclear radiation has been washed off with a _____.

- Ans 1. quick shower
 2. fast shower
 3. energetic shower
 4. speedy shower

Question Type : MCQ
Question ID : 264330136663
Option 1 ID : 264330535374
Option 2 ID : 264330535371
Option 3 ID : 264330535373
Option 4 ID : 264330535372
Status : Answered
Chosen Option : 3

Q.5 Select the most appropriate word for the given group of words.

Difficult to interpret or understand

- Ans
- 1. Endemic
 - 2. Enigmatic
 - 3. Emulate
 - 4. Explicable

Question Type : **MCQ**
Question ID : **264330136731**
Option 1 ID : **264330535634**
Option 2 ID : **264330535632**
Option 3 ID : **264330535631**
Option 4 ID : **264330535633**
Status : **Answered**
Chosen Option : **2**

Q.6 Select the most appropriate word for the given group of words.

A feeling of excitement or happiness

- Ans
- 1. Exhilaration
 - 2. Simulation
 - 3. Desolation
 - 4. Passion

Question Type : **MCQ**
Question ID : **264330136732**
Option 1 ID : **264330535636**
Option 2 ID : **264330535638**
Option 3 ID : **264330535635**
Option 4 ID : **264330535637**
Status : **Answered**
Chosen Option : **1**

Q.7 Identify the segment that contains a grammatical error. If there is no error, select 'No error'.

While persimmons can be / use in pies and tarts, you / can also enjoy them plain.

- Ans
- 1. use in pies and tarts, you
 - 2. While persimmons can be
 - 3. can also enjoy them plain.
 - 4. No error

Question Type : **MCQ**
Question ID : **264330136719**
Option 1 ID : **264330535588**
Option 2 ID : **264330535587**
Option 3 ID : **264330535589**
Option 4 ID : **264330535590**
Status : **Answered**
Chosen Option : **1**

Q.8 Find the part of the given sentence that has an error in it. If there is no error, choose 'No error'.

It is believed that difficult tasks demand lot of our resources.

Ans ✓ 1. difficult tasks demand lot

✗ 2. No error

✗ 3. of our resources.

✗ 4. It is believed that

Question Type : **MCQ**

Question ID : **264330136821**

Option 1 ID : **264330535980**

Option 2 ID : **264330535982**

Option 3 ID : **264330535981**

Option 4 ID : **264330535979**

Status : **Answered**

Chosen Option : **1**

Q.9 Choose the word that is opposite in meaning to the given word.
Reluctant

Ans ✗ 1. Cagey

✗ 2. Abatis

✗ 3. Loathe

✓ 4. Inclined

Question Type : **MCQ**

Question ID : **264330134494**

Option 1 ID : **264330526941**

Option 2 ID : **264330526942**

Option 3 ID : **264330526939**

Option 4 ID : **264330526940**

Status : **Not Answered**

Chosen Option : **--**

Q.10 Improve the underlined part of the sentence. Choose 'No improvement' as an answer if the sentence is grammatically correct.

He had to brake suddenly to avoiding hitting the deer.

Ans ✓ 1. avoid hitting

✗ 2. avoided hits

✗ 3. avoided hitting

✗ 4. No improvement

Question Type : **MCQ**

Question ID : **264330136774**

Option 1 ID : **264330535799**

Option 2 ID : **264330535801**

Option 3 ID : **264330535800**

Option 4 ID : **264330535802**

Status : **Answered**

Chosen Option : **1**

Q.11 Improve the underlined part of the sentence. Choose 'No improvement' as an answer if the sentence is grammatically correct.

The cat was lastly see in the backyard.

- Ans**
- ✓ 1. last seen in
 - ✗ 2. last see in
 - ✗ 3. No improvement
 - ✗ 4. last saw in

Question Type : **MCQ**
Question ID : **264330136824**
Option 1 ID : **264330535992**
Option 2 ID : **264330535993**
Option 3 ID : **264330535994**
Option 4 ID : **264330535991**
Status : **Answered**
Chosen Option : 1

Q.12 Select the most appropriate meaning of the bracketed idiom in the given sentence.

I think I might take (French leave) this afternoon and go to the cinema.

- Ans**
- ✗ 1. To have a slight encounter
 - ✓ 2. Absence without permission
 - ✗ 3. To be inconsistent
 - ✗ 4. To try hard

Question Type : **MCQ**
Question ID : **264330136738**
Option 1 ID : **264330535660**
Option 2 ID : **264330535659**
Option 3 ID : **264330535662**
Option 4 ID : **264330535661**
Status : **Answered**
Chosen Option : 2

Q.13 Select the most appropriate synonym to substitute the bracketed word in the given sentence.

From start to finish, the treatment of the defendants was a (travesty) of legal due process.

- Ans**
- ✓ 1. mockery
 - ✗ 2. slurry
 - ✗ 3. magic
 - ✗ 4. tribute

Question Type : **MCQ**
Question ID : **264330136682**
Option 1 ID : **264330535445**
Option 2 ID : **264330535444**
Option 3 ID : **264330535443**
Option 4 ID : **264330535446**
Status : **Answered**
Chosen Option : 3

Q.14 Select the most appropriate meaning of the given idiom.

In the groove

- Ans
- 1. To muse on in an aimless manner
 - 2. Starting to perform very well
 - 3. A widely debated issue
 - 4. Simplify the producers

Question Type : MCQ

Question ID : 264330136737

Option 1 ID : 264330535658

Option 2 ID : 264330535657

Option 3 ID : 264330535656

Option 4 ID : 264330535655

Status : Answered

Chosen Option : 1

Q.15 Select the correctly spelt word.

- Ans
- 1. Conniavance
 - 2. Connievence
 - 3. Connivance
 - 4. Conivance

Question Type : MCQ

Question ID : 264330136739

Option 1 ID : 264330535666

Option 2 ID : 264330535665

Option 3 ID : 264330535663

Option 4 ID : 264330535664

Status : Answered

Chosen Option : 2

Q.16 Select the most appropriate antonym to substitute the bracketed word in the given sentence.

Any book on any subject risks irrelevance or smallness compared to this (behemoth).

- Ans
- 1. Midget
 - 2. Colossus
 - 3. Monster
 - 4. Dreadnought

Question Type : MCQ

Question ID : 264330136736

Option 1 ID : 264330535653

Option 2 ID : 264330535651

Option 3 ID : 264330535654

Option 4 ID : 264330535652

Status : Answered

Chosen Option : 1

Q.17 Four sentences are given, out of which three have spelling errors. Choose the sentence with all correctly spelt words.

- Ans**
- 1. I wrote her a receipt for the money.
 - 2. They superseded the old statute with a new one.
 - 3. He had no sense of rhythm whatsoever.
 - 4. They will be celebrating their twelfth anniversary this April.

Question Type : **MCQ**
Question ID : **264330136662**
Option 1 ID : **264330535370**
Option 2 ID : **264330535367**
Option 3 ID : **264330535369**
Option 4 ID : **264330535368**
Status : **Answered**
Chosen Option : **4**

Q.18 Improve the underlined part of the sentence. Choose 'No improvement' as an answer if the sentence is grammatically correct.

The rabbit was remain stationary to avoid being seen.

- Ans**
- 1. remained stationary
 - 2. No improvement
 - 3. were remained stationary
 - 4. remain stationary

Question Type : **MCQ**
Question ID : **264330135260**
Option 1 ID : **264330529961**
Option 2 ID : **264330529962**
Option 3 ID : **264330529960**
Option 4 ID : **264330529959**
Status : **Answered**
Chosen Option : **3**

Q.19 Select the most appropriate option to fill in the blank.

The necessity of resisting the _____ demands of the prophets led to the introduction of new rules for distinguishing true and false prophets.

- Ans**
- 1. unimpeachable
 - 2. irreparable
 - 3. relentless
 - 4. imperturbable

Question Type : **MCQ**
Question ID : **264330136723**
Option 1 ID : **264330535606**
Option 2 ID : **264330535604**
Option 3 ID : **264330535605**
Option 4 ID : **264330535603**
Status : **Answered**
Chosen Option : **1**

Q.20 Select the most appropriate synonym of the given word.

Advantage

Ans 1. Vengeance

2. Boon

3. Unfrock

4. Vital

Question Type : **MCQ**

Question ID : **264330136733**

Option 1 ID : **264330535641**

Option 2 ID : **264330535639**

Option 3 ID : **264330535640**

Option 4 ID : **264330535642**

Status : **Answered**

Chosen Option : **2**

Comprehension:

In the following passage some of the words have been deleted. Read the passage carefully and select the correct answer for the given blank out of the four alternatives.

Pumpkins contain high levels of (1) _____. These are molecules that fight harmful free radicals, a (2) _____ of unstable molecule that can sometimes (3) _____ damage to our cells, which may cause ageing and contribute to (4) _____ diseases over time. While some antioxidants occur (5) _____ in our bodies, others we get from fruits and vegetables.

SubQuestion No : 21

Q.21 Select the most appropriate option to fill in blank number 1.

Ans 1. supplements

2. sentiments

3. antioxidants

4. atoms

Question Type : **MCQ**

Question ID : **264330134485**

Option 1 ID : **264330526905**

Option 2 ID : **264330526904**

Option 3 ID : **264330526906**

Option 4 ID : **264330526903**

Status : **Answered**

Chosen Option : **3**

Comprehension:

In the following passage some of the words have been deleted. Read the passage carefully and select the correct answer for the given blank out of the four alternatives.

Pumpkins contain high levels of (1) _____. These are molecules that fight harmful free radicals, a (2) _____ of unstable molecule that can sometimes (3) _____ damage to our cells, which may cause ageing and contribute to (4) _____ diseases over time. While some antioxidants occur (5) _____ in our bodies, others we get from fruits and vegetables.

SubQuestion No : 22**Q.22** Select the most appropriate option to fill in blank number 2.

- Ans 1. type
 2. pattern
 3. term
 4. subject

Question Type : **MCQ**Question ID : **264330134486**Option 1 ID : **264330526909**Option 2 ID : **264330526908**Option 3 ID : **264330526910**Option 4 ID : **264330526907**Status : **Answered**Chosen Option : **1****Comprehension:**

In the following passage some of the words have been deleted. Read the passage carefully and select the correct answer for the given blank out of the four alternatives.

Pumpkins contain high levels of (1) _____. These are molecules that fight harmful free radicals, a (2) _____ of unstable molecule that can sometimes (3) _____ damage to our cells, which may cause ageing and contribute to (4) _____ diseases over time. While some antioxidants occur (5) _____ in our bodies, others we get from fruits and vegetables.

SubQuestion No : 23**Q.23** Select the most appropriate option to fill in blank number 3.

- Ans 1. plan
 2. cause
 3. treats
 4. fall

Question Type : **MCQ**Question ID : **264330134487**Option 1 ID : **264330526912**Option 2 ID : **264330526911**Option 3 ID : **264330526914**Option 4 ID : **264330526913**Status : **Answered**Chosen Option : **4**

Comprehension:

In the following passage some of the words have been deleted. Read the passage carefully and select the correct answer for the given blank out of the four alternatives. Pumpkins contain high levels of (1) _____. These are molecules that fight harmful free radicals, a (2) _____ of unstable molecule that can sometimes (3) _____ damage to our cells, which may cause ageing and contribute to (4) _____ diseases over time. While some antioxidants occur (5) _____ in our bodies, others we get from fruits and vegetables.

SubQuestion No : 24**Q.24** Select the most appropriate option to fill in blank number 4.

- Ans 1. various
 2. neutral
 3. references
 4. spotted

Question Type : **MCQ**Question ID : **264330134488**Option 1 ID : **264330526918**Option 2 ID : **264330526915**Option 3 ID : **264330526917**Option 4 ID : **264330526916**Status : **Answered**Chosen Option : **1****Comprehension:**

In the following passage some of the words have been deleted. Read the passage carefully and select the correct answer for the given blank out of the four alternatives. Pumpkins contain high levels of (1) _____. These are molecules that fight harmful free radicals, a (2) _____ of unstable molecule that can sometimes (3) _____ damage to our cells, which may cause ageing and contribute to (4) _____ diseases over time. While some antioxidants occur (5) _____ in our bodies, others we get from fruits and vegetables.

SubQuestion No : 25**Q.25** Select the most appropriate option to fill in blank number 5.

- Ans 1. naturally
 2. casually
 3. systematically
 4. informally

Question Type : **MCQ**Question ID : **264330134489**Option 1 ID : **264330526922**Option 2 ID : **264330526920**Option 3 ID : **264330526921**Option 4 ID : **264330526919**Status : **Answered**Chosen Option : **1**

Multi Tasking Non Technical Staff and Havaladar CBIC and CBN Examination 2022

Roll Number	KD Job Updates
Candidate Name	KD Job Updates
Venue Name	Aurobindo International School Jaipur
Exam Date	08/05/2023
Exam Time	9:00 AM - 10:30 AM
Subject	MTS Non Tech Havaladar CBIC and CBN Examination 2022

Section : Numerical and Mathematical Ability

Q.1 एक व्यक्ति 2.5 km प्रति घंटे की चाल से 10 km चलता है, फिर 5 km प्रति घंटे की चाल से 10 km दौड़ता है और फिर 30 km प्रति घंटे की चाल से बस से 30 km का सफर करता है। व्यक्ति की औसत चाल क्या है?

- Ans
- 1. 8.25 kmph
 - 2. 7 kmph
 - 3. 7.14 kmph
 - 4. 9 kmph

Question Type : MCQ
Question ID : 264330138049
Option 1 ID : 264330540805
Option 2 ID : 264330540806
Option 3 ID : 264330540804
Option 4 ID : 264330540803
Status : Answered
Chosen Option : 3

Q.2 एक क्रिकेट खिलाड़ी के 10 पारियों में औसत रन 40 थे। उसे अपनी अगली पारी में कितने रन बनाने चाहिए जिससे उसके रनों के औसत में 3 की वृद्धि हो जाए?

- Ans
- 1. 43
 - 2. 63
 - 3. 73
 - 4. 53

Question Type : MCQ
Question ID : 264330138038
Option 1 ID : 264330540760
Option 2 ID : 264330540761
Option 3 ID : 264330540759
Option 4 ID : 264330540762
Status : Answered
Chosen Option : 3

Q.3 अनिल, सचिन से 12.5 प्रतिशत अधिक कुशल है। यदि सचिन अकेले किसी कार्य को 10 दिनों में पूरा कर सकता है, तो अनिल अकेले उसी कार्य को कितने दिनों में पूरा करेगा?

- Ans
- ✓ 1. (80/9) दिनों में
 - ✗ 2. (80/7) दिनों में
 - ✗ 3. (70/11) दिनों में
 - ✗ 4. (70/9) दिनों में

Question Type : MCQ

Question ID : 264330139057

Option 1 ID : 264330544837

Option 2 ID : 264330544835

Option 3 ID : 264330544838

Option 4 ID : 264330544836

Status : Answered

Chosen Option : 1

Q.4 X, Y और Z एक साझेदारी में हिस्सा लेते हैं। X शुरुआत में कुछ राशि का निवेश करता है। 4 माह के बाद Y, X की राशि से तीन गुना राशि का निवेश करता है और हिस्सेदारी की शुरुआत से 9 माह के बाद Z, Y की राशि से दोगुना राशि का निवेश करता है। यदि वार्षिक लाभ Rs. 450000 है, तो उसमें Y का हिस्सा कितना है?

- Ans
- ✗ 1. Rs. 300000
 - ✗ 2. Rs. 150000
 - ✓ 3. Rs. 200000
 - ✗ 4. Rs. 100000

Question Type : MCQ

Question ID : 264330138043

Option 1 ID : 264330540782

Option 2 ID : 264330540781

Option 3 ID : 264330540780

Option 4 ID : 264330540779

Status : Answered

Chosen Option : 3

Q.5 अर्ध-वार्षिक रूप से देय 10% वार्षिक नामित (nominal) दर के अनुरूप प्रभावी वार्षिक ब्याज दर कितनी है?

- Ans
- ✓ 1. 10.25%
 - ✗ 2. 11.50%
 - ✗ 3. 9.25%
 - ✗ 4. 12.75%

Question Type : MCQ

Question ID : 264330133684

Option 1 ID : 264330523761

Option 2 ID : 264330523759

Option 3 ID : 264330523762

Option 4 ID : 264330523760

Status : Answered

Chosen Option : 1

Q.6 8 cm, 27 cm और 64 cm भुजाओं वाले एक घनाभ को पिघलाकर एक नया घन बनाया जाता है। घनाभ और घन के कुल पृष्ठीय क्षेत्रफल का क्रमशः अनुपात कितना है?

- Ans 1. 307 : 216
 2. 291 : 203
 3. 329 : 237
 4. 349 : 248

Question Type : MCQ

Question ID : 264330137167

Option 1 ID : 264330537314

Option 2 ID : 264330537312

Option 3 ID : 264330537311

Option 4 ID : 264330537313

Status : Answered

Chosen Option : 1

Q.7 सेल में एक बॉटल प्यूरिफायर को उसके वास्तविक मूल्य पर 10% के बट्टे के साथ बेचा जाता है। एक स्टोर-वाइड सेल के परिणामस्वरूप प्यूरिफायर पर 15% का अतिरिक्त बट्टा दिया जाता है। वास्तविक मूल्य पर कुल कितना बट्टा दिया गया?

- Ans 1. 18.50%
 2. 19.50%
 3. 22.50%
 4. 23.50%

Question Type : MCQ

Question ID : 264330138044

Option 1 ID : 264330540786

Option 2 ID : 264330540785

Option 3 ID : 264330540784

Option 4 ID : 264330540783

Status : Answered

Chosen Option : 4

Q.8 एक व्यक्ति 0.5 meters/second की चाल से चल सकता है। वह 8 मिनट में कितनी दूरी तय करेगा?

- Ans 1. 120 m
 2. 200 m
 3. 240 m
 4. 250 m

Question Type : MCQ

Question ID : 264330138750

Option 1 ID : 264330543609

Option 2 ID : 264330543610

Option 3 ID : 264330543608

Option 4 ID : 264330543607

Status : Answered

Chosen Option : 3

Q.9 एक तार वर्ग के आकार में है जिसकी भुजा 44 cm है। इसे मोड़कर एक वृत्त बनाया जाता है। इस वृत्त की त्रिज्या क्या है?

- Ans
- 1. 21 cm
 - 2. 32 cm
 - 3. 28 cm
 - 4. 16 cm

Question Type : MCQ

Question ID : 264330139070

Option 1 ID : 264330544888

Option 2 ID : 264330544889

Option 3 ID : 264330544890

Option 4 ID : 264330544887

Status : Answered

Chosen Option : 3

Q.10 एक धनराशि पर 2 वर्ष के लिए 30 प्रतिशत वार्षिक दर से चक्रवृद्धि ब्याज (वार्षिक रूप से संयोजित) और साधारण ब्याज के बीच का अंतर Rs. 3600 है। वह धनराशि क्या है?

- Ans
- 1. Rs. 40000
 - 2. Rs. 60000
 - 3. Rs. 75000
 - 4. Rs. 50000

Question Type : MCQ

Question ID : 264330139007

Option 1 ID : 264330544635

Option 2 ID : 264330544636

Option 3 ID : 264330544637

Option 4 ID : 264330544638

Status : Answered

Chosen Option : 1

Q.11 4 और 6 का तृतीय समानुपाती क्या है?

- Ans
- 1. 16
 - 2. 36
 - 3. 9
 - 4. 6

Question Type : MCQ

Question ID : 264330138045

Option 1 ID : 264330540790

Option 2 ID : 264330540789

Option 3 ID : 264330540788

Option 4 ID : 264330540787

Status : Answered

Chosen Option : 3

Q.12 एक वस्तु पर 5% और 8% की दो क्रमागत मूल्य वृद्धियों के लिए एकल समतुल्य मूल्य वृद्धि क्या है?

- Ans
- 1. 12.5%
 - 2. 14.2%
 - 3. 13.4%
 - 4. 15.5%

Question Type : MCQ

Question ID : 264330133677

Option 1 ID : 264330523731

Option 2 ID : 264330523734

Option 3 ID : 264330523732

Option 4 ID : 264330523733

Status : Answered

Chosen Option : 3

Q.13 $0.8 \times 0.8 \times 0.8 + 0.7 \times 0.7 \times 0.7 + 2.52$ का मान क्या है?

- Ans
- 1. 2.125
 - 2. 5.165
 - 3. 4.275
 - 4. 3.375

Question Type : MCQ

Question ID : 264330138032

Option 1 ID : 264330540737

Option 2 ID : 264330540735

Option 3 ID : 264330540736

Option 4 ID : 264330540738

Status : Answered

Chosen Option : 4

Q.14 एक मिश्रण में दूध और पानी का अनुपात 5:2 है। यदि मिश्रण में 4 लीटर पानी मिला दिया जाए, तो अनुपात 5:4 हो जाता है। दिए गए मिश्रण में दूध की मात्रा कितनी है?

- Ans
- 1. 5 लीटर
 - 2. 10 लीटर
 - 3. 2 लीटर
 - 4. 8 लीटर

Question Type : MCQ

Question ID : 264330138046

Option 1 ID : 264330540792

Option 2 ID : 264330540794

Option 3 ID : 264330540793

Option 4 ID : 264330540791

Status : Answered

Chosen Option : 2

Q.15 नीचे दी गई तालिका में दो परिवारों A और B द्वारा छः वस्तुओं पर किए गए व्यय को दर्शाया गया है।

वस्तुएँ	A	B
P	40	120
Q	60	70
R	80	90
S	100	50
T	110	40
U	90	80

निम्नलिखित में से कौन-सा कथन सही नहीं है?

- I. A द्वारा वस्तु R पर किया गया व्यय, B द्वारा वस्तु Q पर किए गए व्यय से 28.56 प्रतिशत अधिक है।
- II. A द्वारा वस्तु P और Q पर किया गया औसत व्यय और B द्वारा वस्तु R और S पर किए गए औसत व्यय के बीच का अंतर 20 है।

Ans

- ✓ 1. केवल I
- ✗ 2. केवल II
- ✗ 3. न तो I और न ही II
- ✗ 4. I और II दोनों

Question Type : MCQ

Question ID : 264330138033

Option 1 ID : 264330540739

Option 2 ID : 264330540740

Option 3 ID : 264330540742

Option 4 ID : 264330540741

Status : Answered

Chosen Option : 2

Q.16 रोहन अकेले किसी कार्य को 10 दिनों में कर सकता है और मोहन अकेले उसी कार्य को 15 दिनों में कर सकता है। वे मिलकर उसी कार्य को कितने दिनों में पूरा करेंगे?

Ans

- ✗ 1. 5 दिन
- ✗ 2. 7 दिन
- ✓ 3. 6 दिन
- ✗ 4. 4 दिन

Question Type : MCQ

Question ID : 264330137152

Option 1 ID : 264330537251

Option 2 ID : 264330537254

Option 3 ID : 264330537252

Option 4 ID : 264330537253

Status : Answered

Chosen Option : 3

Q.17 एक व्यक्ति ने एक रुपए में 30 पेन की दर से कुछ पेन खरीदे और उन्हें एक रुपए में 20 पेन की दर से बेच दिया।
उसका लाभ प्रतिशत क्या है?

- Ans
- 1. 33.33 प्रतिशत
 - 2. 50 प्रतिशत
 - 3. 66.66 प्रतिशत
 - 4. 75 प्रतिशत

Question Type : MCQ

Question ID : 264330139002

Option 1 ID : 264330544617

Option 2 ID : 264330544615

Option 3 ID : 264330544616

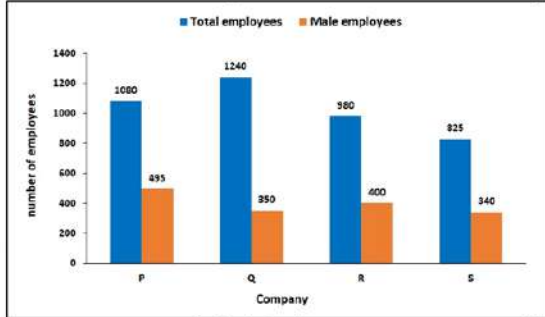
Option 4 ID : 264330544618

Status : Answered

Chosen Option : 2

Q.18 निम्नलिखित दंड आलेख में 4 अलग-अलग कंपनियों में कर्मचारियों की कुल संख्या को दर्शाया गया है।

कंपनी Q और कंपनी S में महिला कर्मचारियों की संख्या का योग क्या है?



No of employees - कर्मचारियों की संख्या, Total employees - कर्मचारियों की कुल संख्या, Company - कंपनी,
Male Employee - पुरुष कर्मचारी

- Ans
- 1. 485
 - 2. 890
 - 3. 1240
 - 4. 1375

Question Type : MCQ

Question ID : 264330138053

Option 1 ID : 264330540820

Option 2 ID : 264330540819

Option 3 ID : 264330540822

Option 4 ID : 264330540821

Status : Answered

Chosen Option : 4

Q.19 $\frac{66 - 55 + 44 - 33 + 22}{13 \times 3 + 2 \times 3 - 1}$ का मान क्या है?

- Ans
- 1. 44
 - 2. 4
 - 3. 1
 - 4. 11

Question Type : MCQ

Question ID : 264330137339

Option 1 ID : 264330537985

Option 2 ID : 264330537984

Option 3 ID : 264330537983

Option 4 ID : 264330537986

Status : Answered

Chosen Option : 3

Q.20 $8000 \div 10 \times \{(8 - 4) + (36 - 24)\}$ का मान है:

- Ans
- 1. 12800
 - 2. 50
 - 3. 6400
 - 4. 800

Question Type : MCQ

Question ID : 264330138035

Option 1 ID : 264330540750

Option 2 ID : 264330540747

Option 3 ID : 264330540749

Option 4 ID : 264330540748

Status : Answered

Chosen Option : 1

Section : Reasoning Ability and Problem Solving

Q.1 छः बहनें अनु, अंकिता, आशा, एमी, अन्वेषी और आयशा एक वृत्ताकार मेज के चारों ओर एक-दूसरे की ओर मुख करके बैठी हैं। अनु, अंकिता के ठीक बाईं ओर बैठी है। एमी, आशा और आयशा के ठीक बीच में बैठी है। आयशा, अन्वेषी के आसन्न नहीं बैठी है, जो अनु के दाईं ओर से दूसरे स्थान पर बैठी है। अंकिता के ठीक दाईं ओर कौन बैठा है?

- Ans
- 1. आयशा
 - 2. एमी
 - 3. अन्वेषी
 - 4. आशा

Question Type : MCQ

Question ID : 264330137839

Option 1 ID : 264330539966

Option 2 ID : 264330539965

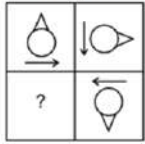
Option 3 ID : 264330539964

Option 4 ID : 264330539963

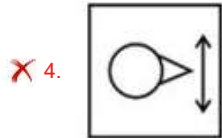
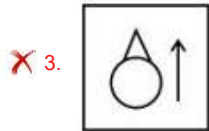
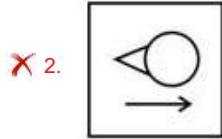
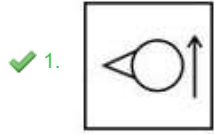
Status : Answered

Chosen Option : 1

Q.2 उस विकल्प आकृति को चुनिए जो पैटर्न को पूरा करने के लिए नीचे दी गई आकृति में प्रश्न चिन्ह (?) के स्थान पर आएगी। (घूर्णन की अनुमति नहीं है)



Ans



Question Type : MCQ

Question ID : 264330137851

Option 1 ID : 264330540011

Option 2 ID : 264330540013

Option 3 ID : 264330540012

Option 4 ID : 264330540014

Status : Answered

Chosen Option : 1

Q.3 उस विकल्प को चुनिए जो तीसरे अक्षर-समूह से ठीक उसी प्रकार संबंधित है जिस प्रकार दूसरा अक्षर-समूह पहले अक्षर-समूह से संबंधित है।

DMK : ENJ :: QOC : ?

Ans

✓ 1. RPB

✗ 2. RBP

✗ 3. BRP

✗ 4. PRM

Question Type : MCQ

Question ID : 264330137833

Option 1 ID : 264330539939

Option 2 ID : 264330539941

Option 3 ID : 264330539940

Option 4 ID : 264330539942

Status : Answered

Chosen Option : 1

Q.4 एक निश्चित कूट भाषा में, 'BONE' को 'F15R5' लिखा जाता है। उस कूट भाषा में 'NOSE' को कैसे लिखा जाएगा?

- Ans
- 1. R5W51
 - 2. R61W5
 - 3. R15W5
 - 4. R51W5

Question Type : MCQ

Question ID : 264330135024

Option 1 ID : 264330529033

Option 2 ID : 264330529034

Option 3 ID : 264330529032

Option 4 ID : 264330529031

Status : Answered

Chosen Option : 3

Q.5 दिए गए समीकरण को सही करने के लिए किन दो संख्याओं को आपस में बदला जाना चाहिए?

$$4 \times 8 - 12 + 5 = 16$$

- Ans
- 1. 12 और 16
 - 2. 8 और 5
 - 3. 16 और 8
 - 4. 4 और 5

Question Type : MCQ

Question ID : 264330137847

Option 1 ID : 264330539996

Option 2 ID : 264330539998

Option 3 ID : 264330539995

Option 4 ID : 264330539997

Status : Answered

Chosen Option : 2

Q.6 उस विकल्प को चुनिए जो तीसरे शब्द से ठीक उसी प्रकार संबंधित है जिस प्रकार दूसरा शब्द पहले शब्द से संबंधित है।

तितली : इल्ली :: भेड़ : ?

- Ans
- 1. बिल्ली का बच्चा (Kitty)
 - 2. कबूतर
 - 3. मेमना
 - 4. बिल्ली

Question Type : MCQ

Question ID : 264330137832

Option 1 ID : 264330539936

Option 2 ID : 264330539938

Option 3 ID : 264330539937

Option 4 ID : 264330539935

Status : Answered

Chosen Option : 3

Q.7 एक निश्चित कूट भाषा में, 'WORLD' को '5' लिखा जाता है, 'UPDATE' को '6' लिखा जाता है। उस कूट भाषा में 'GLOBALLY' को कैसे लिखा जाएगा?

- Ans
- 1. 7
 - 2. 8
 - 3. 19
 - 4. 9

Question Type : MCQ

Question ID : 264330137370

Option 1 ID : 264330538109

Option 2 ID : 264330538107

Option 3 ID : 264330538110

Option 4 ID : 264330538108

Status : Answered

Chosen Option : 2

Q.8 दो कथन दिए गए हैं और दो निष्कर्ष I और II दिए गए हैं। कथनों को सत्य मानते हुए, चाहे वे सामान्यतः जात तथ्यों से अलग प्रतीत होते हों, निश्चय कीजिए कि कौन-सा निष्कर्ष तार्किक रूप से कथनों के अनुसार है।
कथन:

कुछ दूध, दही हैं।

कुछ दही, मक्खन हैं।

निष्कर्ष:

I. कुछ दूध, मक्खन हैं।

II. कुछ मक्खन, दही हैं।

- Ans
- 1. केवल निष्कर्ष II कथनों के अनुसार है।
 - 2. न तो निष्कर्ष I और न ही II कथनों के अनुसार है।
 - 3. केवल निष्कर्ष I कथनों के अनुसार है।
 - 4. दोनों निष्कर्ष I और II कथनों के अनुसार हैं।

Question Type : MCQ

Question ID : 264330137841

Option 1 ID : 264330539972

Option 2 ID : 264330539974

Option 3 ID : 264330539971

Option 4 ID : 264330539973

Status : Answered

Chosen Option : 4

Q.9 एक निश्चित कूट भाषा में, 'WODMF' को 'ZRDKD' लिखा जाता है। उस भाषा में 'EIDMC' को कैसे लिखा जाएगा?

- Ans
- 1. HDLKA
 - 2. HLDKA
 - 3. HALDA
 - 4. HDLAK

Question Type : MCQ

Question ID : 264330134960

Option 1 ID : 264330528775

Option 2 ID : 264330528776

Option 3 ID : 264330528777

Option 4 ID : 264330528778

Status : Answered

Chosen Option : 2

Q.10 यदि A का अर्थ 'जोड़', B का अर्थ 'गुणा', C का अर्थ 'घटाव' और D का अर्थ 'भाग' हो, तो निम्नलिखित समीकरण का मान क्या होगा?
6 A (9 D 3) C 4 =?

- Ans
- 1. 5
 - 2. 7
 - 3. 12
 - 4. 8

Question Type : MCQ

Question ID : 264330138825

Option 1 ID : 264330543907

Option 2 ID : 264330543908

Option 3 ID : 264330543909

Option 4 ID : 264330543910

Status : Answered

Chosen Option : 1

Q.11 उस विकल्प आकृति को चुनें जिसमें दी गई आकृति निहित है।(घूर्णन की अनुमति नहीं है)



Ans

✗ 1.



✓ 2.



✗ 3.



✗ 4.



Question Type : MCQ

Question ID : 264330137827

Option 1 ID : 264330539916

Option 2 ID : 264330539917

Option 3 ID : 264330539915

Option 4 ID : 264330539918

Status : Answered

Chosen Option : 2

Q.12 सात मित्रों M, N, O, P, Q, R, और S का कद अलग-अलग है। वे अपनी लंबाई के अनुसार आरोही क्रम में खड़े हैं। सबसे लंबा व्यक्ति दाईं ओर और सबसे छोटे कद वाला व्यक्ति बाईं ओर खड़ा है। केवल तीन मित्र O से लंबे हैं। R का कद केवल Q से छोटा है। N, P और M दोनों से लंबा है लेकिन S से कद में छोटा है। तीसरा सबसे लंबा व्यक्ति कौन है?

Ans

✓ 1. S

✗ 2. N

✗ 3. P

✗ 4. O

Question Type : MCQ

Question ID : 264330137840

Option 1 ID : 264330539970

Option 2 ID : 264330539968

Option 3 ID : 264330539967

Option 4 ID : 264330539969

Status : Answered

Chosen Option : 2

Q.13 उस विकल्प को चुनिए जो तीसरी संख्या से ठीक उसी प्रकार संबंधित है जिस प्रकार दूसरी संख्या पहली संख्या से संबंधित है।

13 : 182 :: 17 : ?

Ans 1. 306

2. 360

3. 440

4. 280

Question Type : MCQ

Question ID : 264330133399

Option 1 ID : 264330522627

Option 2 ID : 264330522628

Option 3 ID : 264330522629

Option 4 ID : 264330522630

Status : Answered

Chosen Option : 1

Q.14 दी गई श्रृंखला में निम्नलिखित में से कौन-सी संख्या प्रश्न चिन्ह (?) के स्थान पर आएगी?

13, 9, 5, 1, -3, -7, -11, ?

Ans 1. -13

2. -16

3. -15

4. -14

Question Type : MCQ

Question ID : 264330137844

Option 1 ID : 264330539984

Option 2 ID : 264330539983

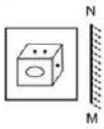
Option 3 ID : 264330539986

Option 4 ID : 264330539985

Status : Answered

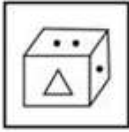
Chosen Option : 3

Q.15 दी गई आकृति के उस सही दर्पण प्रतिबिंब को चुनिए, जो दर्पण MN को आकृति के दाईं ओर रखने पर बनेगा।

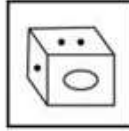


Ans

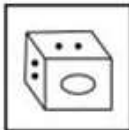
✗ 1.



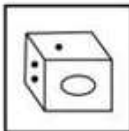
✓ 2.



✗ 3.



✗ 4.



Question Type : MCQ

Question ID : 264330137828

Option 1 ID : 264330539920

Option 2 ID : 264330539921

Option 3 ID : 264330539922

Option 4 ID : 264330539919

Status : Answered

Chosen Option : 2

Q.16 दी गई श्रृंखला में निम्नलिखित में से कौन-सी संख्या प्रश्न चिन्ह (?) के स्थान पर आएगी?

75, 76, 78, 79, 81, 82, 84, 85, 87, ?

Ans ✗ 1. 80

✗ 2. 90

✓ 3. 88

✗ 4. 96

Question Type : MCQ

Question ID : 264330133397

Option 1 ID : 264330522622

Option 2 ID : 264330522619

Option 3 ID : 264330522621

Option 4 ID : 264330522620

Status : Answered

Chosen Option : 3

Q.17 तीन कथन दिए गए हैं और दो निष्कर्ष I और II दिए गए हैं। कथनों को सत्य मानते हुए, चाहे वे सामान्यतः ज्ञात तथ्यों से अलग प्रतीत होते हों, निश्चय कीजिए कि कौन-सा निष्कर्ष तार्किक रूप से कथनों के अनुसार है।
कथन:

सभी पक्षी, कौए हैं।

कुछ कौए, तोते हैं।

कोई कौआ, कबूतर नहीं है।

निष्कर्ष:

I. कोई तोता, कबूतर नहीं है।

II. कुछ पक्षी, तोते हैं।

Ans

✓ 1. न तो निष्कर्ष I और न ही II कथनों के अनुसार है।

✗ 2. केवल निष्कर्ष I कथनों के अनुसार है।

✗ 3. दोनों निष्कर्ष I और II कथनों के अनुसार हैं।

✗ 4. केवल निष्कर्ष II कथनों के अनुसार है।

Question Type : MCQ

Question ID : 264330137842

Option 1 ID : 264330539978

Option 2 ID : 264330539975

Option 3 ID : 264330539977

Option 4 ID : 264330539976

Status : Answered

Chosen Option : 4

Q.18 पाँच भाई ड्रेक, डेविड, डैनी, डर्क और डिम उत्तर की ओर मुख करके एक बेंच पर बैठे हैं। डर्क, डैनी के ठीक दाईं ओर बैठा है। डिम, ड्रेक और डेविड के ठीक बीच में बैठा है। ड्रेक के बाईं ओर कोई नहीं बैठा है। डैनी के ठीक बाईं ओर कौन बैठा है?

Ans

✗ 1. डिम

✗ 2. डर्क

✓ 3. डेविड

✗ 4. ड्रेक

Question Type : MCQ

Question ID : 264330137838

Option 1 ID : 264330539961

Option 2 ID : 264330539959

Option 3 ID : 264330539960

Option 4 ID : 264330539962

Status : Answered

Chosen Option : 2

Q.19 दिए गए पैटर्न का ध्यानपूर्वक अध्ययन कीजिए और उस संख्या को चुनिए जो इसमें प्रश्न चिन्ह (?) के स्थान पर आ सकती है।
पहली पंक्ति- 64, 69, 74
दूसरी पंक्ति- 26, 31, 36
तीसरी पंक्ति - 49, 54, ?

- Ans
- 1. 53
 - 2. 65
 - 3. 59
 - 4. 37

Question Type : MCQ
Question ID : 264330137846
Option 1 ID : 264330539994
Option 2 ID : 264330539992
Option 3 ID : 264330539991
Option 4 ID : 264330539993
Status : Answered
Chosen Option : 3

Q.20 दी गई श्रृंखला में निम्नलिखित में से कौन-सा अक्षर प्रश्न चिन्ह (?) के स्थान पर आएगा?
D, H, L, P, T, ?

- Ans
- 1. R
 - 2. M
 - 3. X
 - 4. P

Question Type : MCQ
Question ID : 264330137830
Option 1 ID : 264330539929
Option 2 ID : 264330539930
Option 3 ID : 264330539928
Option 4 ID : 264330539927
Status : Answered
Chosen Option : 3

Section : General Awareness

Q.1 भारत में जनसंख्या की गणना सामान्यतः कितने वर्षों के बाद की जाती है?

- Ans
- 1. 15
 - 2. 20
 - 3. 5
 - 4. 10

Question Type : MCQ
Question ID : 264330138341
Option 1 ID : 264330541973
Option 2 ID : 264330541974
Option 3 ID : 264330541971
Option 4 ID : 264330541972
Status : Answered
Chosen Option : 4

Q.2 भारतीय संविधान का कौन-सा अनुच्छेद राष्ट्रपति द्वारा शपथ या प्रतिज्ञान की बात करता है?

- Ans
- 1. अनुच्छेद 72
 - 2. अनुच्छेद 45
 - 3. अनुच्छेद 60
 - 4. अनुच्छेद 56

Question Type : MCQ

Question ID : 264330137965

Option 1 ID : 264330540470

Option 2 ID : 264330540467

Option 3 ID : 264330540468

Option 4 ID : 264330540469

Status : Answered

Chosen Option : 4

Q.3 रानी-की-वाव (रानी की बावड़ी) किस नदी के तट पर स्थित है?

- Ans
- 1. गंगा
 - 2. सरस्वती
 - 3. यमुना
 - 4. कृष्णा

Question Type : MCQ

Question ID : 264330138873

Option 1 ID : 264330544099

Option 2 ID : 264330544101

Option 3 ID : 264330544100

Option 4 ID : 264330544102

Status : Answered

Chosen Option : 4

Q.4 अंडमान द्वीप समूह और निकोबार द्वीप समूह को एक-दूसरे से अलग करने वाले जल निकाय को _____ कहा जाता है।

- Ans
- 1. मन्नार की खाड़ी (Gulf of Mannar)
 - 2. दस डिग्री जलसंधि (Ten Degree Channel)
 - 3. पाक जलसंधि (Palk Strait)
 - 4. कोनोली नहर (Conolly Canal)

Question Type : MCQ

Question ID : 264330137954

Option 1 ID : 264330540424

Option 2 ID : 264330540425

Option 3 ID : 264330540423

Option 4 ID : 264330540426

Status : Answered

Chosen Option : 2

Q.5 महाद्वीपीय संहति मुख्य रूप से _____ एवं _____ जैसे खनिजों से बनी है।

- Ans
- 1. सिलिका, मैग्नीशियम
 - 2. सिलिका, एलुमिना
 - 3. ऑक्सीजन, कार्बन
 - 4. एलुमिना, मैग्नीशियम

Question Type : MCQ
Question ID : 264330133896
Option 1 ID : 264330524608
Option 2 ID : 264330524610
Option 3 ID : 264330524607
Option 4 ID : 264330524609
Status : Answered
Chosen Option : 2

Q.6 'I2U2' पहल को _____ के नाम से भी जाना जाता है।

- Ans
- 1. पूर्वी यूरोपीय क्वाड (East European Quad)
 - 2. पश्चिम यूरोपीय क्वाड (West European Quad)
 - 3. पूर्वी एशियाई क्वाड (East Asian Quad)
 - 4. पश्चिम एशियाई क्वाड (West Asian Quad)

Question Type : MCQ
Question ID : 264330134628
Option 1 ID : 264330527470
Option 2 ID : 264330527469
Option 3 ID : 264330527468
Option 4 ID : 264330527467
Status : Answered
Chosen Option : 3

Q.7 नवरेह, एक चंद्र नव वर्ष है जो निम्नलिखित में से किस राज्य/केंद्र शासित प्रदेश में मनाया जाता है?

- Ans
- 1. असम
 - 2. सिक्किम
 - 3. जम्मू और कश्मीर
 - 4. मणिपुर

Question Type : MCQ
Question ID : 264330137922
Option 1 ID : 264330540295
Option 2 ID : 264330540296
Option 3 ID : 264330540297
Option 4 ID : 264330540298
Status : Marked For Review
Chosen Option : 1

Q.8 नवंबर 2022 में, प्रधान मंत्री राष्ट्रीय शिक्षता मेला (Pradhan Mantri National Apprenticeship Mela)
में आयोजित किया गया था।

- Ans
- 1. 120 जिलों
 - 2. 182 जिलों
 - 3. 152 जिलों
 - 4. 199 जिलों

Question Type : MCQ
Question ID : 264330137944
Option 1 ID : 264330540384
Option 2 ID : 264330540386
Option 3 ID : 264330540383
Option 4 ID : 264330540385
Status : Answered
Chosen Option : 4

Q.9 भारतीय संविधान की 8वीं अनुसूची के अनुसार, भारत में कितनी आधिकारिक भाषाएँ हैं?

- Ans
- 1. 32
 - 2. 22
 - 3. 12
 - 4. 42

Question Type : MCQ
Question ID : 264330137964
Option 1 ID : 264330540465
Option 2 ID : 264330540464
Option 3 ID : 264330540463
Option 4 ID : 264330540466
Status : Answered
Chosen Option : 2

Q.10 रोजर फेडरर (Roger Federer) _____ खेल के एक प्रसिद्ध खिलाड़ी हैं।

- Ans
- 1. लॉन टेनिस
 - 2. रग्बी
 - 3. लॉन बोल्ल्स
 - 4. फुटबॉल

Question Type : MCQ
Question ID : 264330137966
Option 1 ID : 264330540472
Option 2 ID : 264330540473
Option 3 ID : 264330540471
Option 4 ID : 264330540474
Status : Answered
Chosen Option : 1

Q.11 वर्ष 1835 के अंग्रेजों के शिक्षा अधिनियम के परिणामस्वरूप _____ को _____ शिक्षा का माध्यम बनाया गया।

- Ans
- 1. अंग्रेज़ी, प्राथमिक
 - 2. स्थानीय भाषा, प्राथमिक
 - 3. स्थानीय भाषा, उच्च
 - 4. अंग्रेज़ी, उच्च

Question Type : MCQ

Question ID : 264330138894

Option 1 ID : 264330544183

Option 2 ID : 264330544185

Option 3 ID : 264330544186

Option 4 ID : 264330544184

Status : Answered

Chosen Option : 4

Q.12 18वीं शताब्दी की शुरुआत में, राजपूत शासक सवाई राजा जय सिंह ने _____ में अपनी नई राजधानी की स्थापना की।

- Ans
- 1. अजमेर
 - 2. उदयपुर
 - 3. जयपुर
 - 4. जोधपुर

Question Type : MCQ

Question ID : 264330133903

Option 1 ID : 264330524635

Option 2 ID : 264330524638

Option 3 ID : 264330524637

Option 4 ID : 264330524636

Status : Answered

Chosen Option : 3

Q.13 राउत नाचा (Raut Nacha) भारत के _____ राज्य का एक प्रसिद्ध लोक नृत्य है।

- Ans
- 1. छत्तीसगढ़
 - 2. पंजाब
 - 3. कर्नाटक
 - 4. सिक्किम

Question Type : MCQ

Question ID : 264330137946

Option 1 ID : 264330540392

Option 2 ID : 264330540391

Option 3 ID : 264330540393

Option 4 ID : 264330540394

Status : Answered

Chosen Option : 3

Q.14 तत्वबोधिनी सभा (Tattvabodhini Sabha) की स्थापना देबेंद्र नाथ टैगोर ने किस वर्ष में की थी?

- Ans
- 1. 1854
 - 2. 1845
 - 3. 1839
 - 4. 1832

Question Type : MCQ

Question ID : 264330137935

Option 1 ID : 264330540347

Option 2 ID : 264330540348

Option 3 ID : 264330540350

Option 4 ID : 264330540349

Status : Not Answered

Chosen Option : --

Q.15 निम्नलिखित में से कौन राष्ट्रपति के निर्वाचन में भाग नहीं लेगा?

- Ans
- 1. निर्वाचित लोकसभा सदस्य
 - 2. निर्वाचित राज्यसभा सदस्य
 - 3. राज्य विधान सभाओं के निर्वाचित सदस्य
 - 4. राज्य विधान परिषद के निर्वाचित सदस्य

Question Type : MCQ

Question ID : 264330138882

Option 1 ID : 264330544135

Option 2 ID : 264330544136

Option 3 ID : 264330544137

Option 4 ID : 264330544138

Status : Answered

Chosen Option : 4

Q.16 किस संस्था का संबंध भारत में गरीबी रेखा के आकलन से है?

- Ans
- 1. भारतीय कृषि अनुसंधान परिषद
 - 2. राष्ट्रीय नमूना सर्वेक्षण संगठन
 - 3. भारतीय रिज़र्व बैंक
 - 4. नीति आयोग

Question Type : MCQ

Question ID : 264330134681

Option 1 ID : 264330527680

Option 2 ID : 264330527679

Option 3 ID : 264330527682

Option 4 ID : 264330527681

Status : Answered

Chosen Option : 2

Q.17 कोशिकीय अंगक के किस घटक का मुख्य कार्य द्रव्य को संवेष्टित कर अंतर-कोशिकी लक्ष्य तक पहुँचाना या कोशिका के बाहर स्रवण करना है?

- Ans
- ✓ 1. गॉल्जीकाय
 - ✗ 2. गुणसूत्र
 - ✗ 3. हरितलवक
 - ✗ 4. सूत्रकणिका (माइटोकॉन्ड्रिया)

Question Type : MCQ
Question ID : 264330137950
Option 1 ID : 264330540410
Option 2 ID : 264330540408
Option 3 ID : 264330540407
Option 4 ID : 264330540409
Status : Answered
Chosen Option : 1

Q.18 वर्ष 2011 की जनगणना के अनुसार भारत का दूसरा सबसे बड़ा धार्मिक अल्पसंख्यक समाज कौन-सा है?

- Ans
- ✗ 1. सिख
 - ✗ 2. बौद्ध
 - ✗ 3. मुस्लिम
 - ✓ 4. ईसाई

Question Type : MCQ
Question ID : 264330134638
Option 1 ID : 264330527508
Option 2 ID : 264330527510
Option 3 ID : 264330527507
Option 4 ID : 264330527509
Status : Answered
Chosen Option : 2

Q.19 निम्नलिखित में से किस पल्लव शासक के शासनकाल में ह्वेन-त्सांग (Hiuen Tsang) ने पल्लवों की राजधानी कांची का भ्रमण किया था?

- Ans
- ✓ 1. नरसिंहवर्मन प्रथम
 - ✗ 2. महेन्द्रवर्मन प्रथम
 - ✗ 3. नरसिंहवर्मन द्वितीय
 - ✗ 4. महेन्द्रवर्मन द्वितीय

Question Type : MCQ
Question ID : 264330137932
Option 1 ID : 264330540336
Option 2 ID : 264330540335
Option 3 ID : 264330540337
Option 4 ID : 264330540338
Status : Answered
Chosen Option : 1

Q.20 प्रसिद्ध भारतीय संगीतकार उस्ताद अलाउद्दीन ख़ाँ का संबंध निम्न में से किस वाद्य यंत्र से है?

- Ans
- 1. संतूर
 - 2. सितार
 - 3. सरोद
 - 4. सुरबहार

Question Type : MCQ
Question ID : 264330137962
Option 1 ID : 264330540458
Option 2 ID : 264330540455
Option 3 ID : 264330540457
Option 4 ID : 264330540456
Status : Answered
Chosen Option : 2

Q.21 केन्द्रक एवं कोशिका झिल्ली के मध्य एक जेली के समान मौजूद पदार्थ को क्या कहते हैं?

- Ans
- 1. प्लैज्मा
 - 2. कोशिका भित्ति
 - 3. कोशिका द्रव्य
 - 4. प्लैज्मा झिल्ली

Question Type : MCQ
Question ID : 264330133895
Option 1 ID : 264330524605
Option 2 ID : 264330524603
Option 3 ID : 264330524604
Option 4 ID : 264330524606
Status : Answered
Chosen Option : 3

Q.22 भारतीय क्रिकेट कंट्रोल बोर्ड (BCCI) की स्थापना सन् _____ में हुई थी।

- Ans
- 1. 1926
 - 2. 1922
 - 3. 1928
 - 4. 1924

Question Type : MCQ
Question ID : 264330133885
Option 1 ID : 264330524565
Option 2 ID : 264330524563
Option 3 ID : 264330524566
Option 4 ID : 264330524564
Status : Answered
Chosen Option : 3

Q.23 विद्युत धारा के प्रवाह को रोकने या प्रारंभ करने के लिए परिपथ को तोड़ने अथवा पूरा करने के लिए किस युक्ति (device) का प्रयोग किया जाता है?

- Ans
- 1. बल्ब
 - 2. तार
 - 3. विद्युत-रोधक
 - 4. स्विच

Question Type : MCQ
Question ID : 264330133897
Option 1 ID : 264330524611
Option 2 ID : 264330524613
Option 3 ID : 264330524614
Option 4 ID : 264330524612
Status : Answered
Chosen Option : 4

Q.24 गेहूँ की खेती किस प्रकार की मृदा में सर्वोत्तम ढंग से होती है।

- Ans
- 1. काली मृदा
 - 2. सु-अपवाहित दुमट मृदा
 - 3. पीली मृदा
 - 4. लाल मृदा

Question Type : MCQ
Question ID : 264330134636
Option 1 ID : 264330527500
Option 2 ID : 264330527501
Option 3 ID : 264330527502
Option 4 ID : 264330527499
Status : Answered
Chosen Option : 1

Q.25 वर्ष 1905 में बंगाल के विभाजन के बाद अंग्रेजों द्वारा आधिकारिक कारण क्या दिया गया?

- Ans
- 1. सेना की आवाजाही को आसान बनाना
 - 2. उग्रवादी कार्यावर्तीची तपासणी
 - 3. प्रशासकीय सुविधा
 - 4. आर्थिक प्रगति

Question Type : MCQ
Question ID : 264330134643
Option 1 ID : 264330527529
Option 2 ID : 264330527530
Option 3 ID : 264330527527
Option 4 ID : 264330527528
Status : Answered
Chosen Option : 3

Q.1 Select the word from the options which is exactly opposite in meaning to the bracketed word given in the sentence below.

She must have an (affinity) for women with dark hair.

- Ans**
- 1. Stand
 - 2. Dislike
 - 3. Dodge
 - 4. Tendency

Question Type : **MCQ**
Question ID : **264330136403**
Option 1 ID : **264330534376**
Option 2 ID : **264330534378**
Option 3 ID : **264330534375**
Option 4 ID : **264330534377**
Status : **Answered**
Chosen Option : **2**

Q.2 Select the most appropriate option to fill in the blank.

Very special care should be taken to proportion the sand so as to make a perfectly _____ mixture.

- Ans**
- 1. obvious
 - 2. envious
 - 3. devious
 - 4. impervious

Question Type : **MCQ**
Question ID : **264330136315**
Option 1 ID : **264330534036**
Option 2 ID : **264330534038**
Option 3 ID : **264330534037**
Option 4 ID : **264330534035**
Status : **Answered**
Chosen Option : **3**

Q.3 Identify the segment that contains a grammatical error. If there is no error, select 'No error'.

Your ears are itching / because you are having an / allergic reaction.

- Ans**
- 1. allergic reaction.
 - 2. No error
 - 3. Your ears are itching
 - 4. because you are having an

Question Type : **MCQ**
Question ID : **264330136692**
Option 1 ID : **264330535485**
Option 2 ID : **264330535486**
Option 3 ID : **264330535483**
Option 4 ID : **264330535484**
Status : **Answered**
Chosen Option : **3**

Q.4 Improve the underlined part of the sentence. Choose 'No improvement' as an answer if the sentence is grammatically correct.

Watch your step—the third stair have a broken tread.

- Ans**
- 1. has a broke
 - 2. No improvement
 - 3. has a broken
 - 4. has a break

Question Type : **MCQ**
Question ID : **264330134826**
Option 1 ID : **264330528243**
Option 2 ID : **264330528246**
Option 3 ID : **264330528245**
Option 4 ID : **264330528244**
Status : **Answered**
Chosen Option : **3**

Q.5 Fill in the blank with the most appropriate option.

Every story in this collection is unique, inspirational, and _____.

- Ans**
- 1. sustainable
 - 2. culpable
 - 3. apprehensive
 - 4. relatable

Question Type : **MCQ**
Question ID : **264330136409**
Option 1 ID : **264330534401**
Option 2 ID : **264330534402**
Option 3 ID : **264330534399**
Option 4 ID : **264330534400**
Status : **Answered**
Chosen Option : **1**

Q.6 Select the word segment that substitutes (replaces) the bracketed word segment correctly and completes the sentence meaningfully. Select the option 'no correction required' if the sentence is correct as given.

There were creatures (stood between) the carriage shafts.

- Ans**
- 1. standing between
 - 2. stood among
 - 3. No correction required
 - 4. stands among

Question Type : **MCQ**
Question ID : **264330136695**
Option 1 ID : **264330535495**
Option 2 ID : **264330535497**
Option 3 ID : **264330535498**
Option 4 ID : **264330535496**
Status : **Answered**
Chosen Option : **2**

Q.7 Select the most appropriate word for the given group of words.

Abundant garbage kept at one place.

- Ans**
- 1. Mound of garbage
 - 2. Hill of garbage
 - 3. Heap of garbage
 - 4. Lot of garbage

Question Type : **MCQ**
Question ID : **264330136399**
Option 1 ID : **264330534361**
Option 2 ID : **264330534359**
Option 3 ID : **264330534360**
Option 4 ID : **264330534362**
Status : **Answered**
Chosen Option : **2**

Q.8 Four words are given, out of which only one word is spelt correctly. Choose the correctly spelt word.

- Ans**
- 1. SIEZE
 - 2. FLOWWER
 - 3. RHYTHM
 - 4. RECOMEND

Question Type : **MCQ**
Question ID : **264330136406**
Option 1 ID : **264330534387**
Option 2 ID : **264330534390**
Option 3 ID : **264330534388**
Option 4 ID : **264330534389**
Status : **Answered**
Chosen Option : **3**

Q.9 Choose the word that can substitute the given group of words.
A person who leaves his native country to settle in another

- Ans**
- 1. Domicile
 - 2. Itinerant
 - 3. Nomad
 - 4. Emigrant

Question Type : **MCQ**
Question ID : **264330134360**
Option 1 ID : **264330526424**
Option 2 ID : **264330526423**
Option 3 ID : **264330526425**
Option 4 ID : **264330526426**
Status : **Answered**
Chosen Option : **4**

Q.10 Select the most appropriate option to fill in the blank.

And his _____ manner should not be mistaken for a lack of energy.

- Ans
- 1. debase
 - 2. daunt
 - 3. diffident
 - 4. deem

Question Type : MCQ
Question ID : 264330136516
Option 1 ID : 264330534808
Option 2 ID : 264330534809
Option 3 ID : 264330534807
Option 4 ID : 264330534810
Status : Answered
Chosen Option : 4

Q.11 Identify the segment that contains a grammatical error. If there is no error, select 'No error'.

'Don't you get / involve!' Sandhya / whispered urgently to him.

- Ans
- 1. whispered urgently to him.
 - 2. Don't you get
 - 3. involve!' Sandhya
 - 4. No error

Question Type : MCQ
Question ID : 264330136386
Option 1 ID : 264330534313
Option 2 ID : 264330534311
Option 3 ID : 264330534312
Option 4 ID : 264330534314
Status : Answered
Chosen Option : 1

Q.12 In the following question, out of the given four alternatives, select the alternative which best expresses the meaning of the Idiom/Phrase.
Born with silver spoon in one's mouth

- Ans
- 1. Useful for one's purpose
 - 2. To accomplish two tasks in one attempt
 - 3. Born in a very rich family
 - 4. A work which needs tremendous energy

Question Type : MCQ
Question ID : 264330134366
Option 1 ID : 264330526450
Option 2 ID : 264330526449
Option 3 ID : 264330526448
Option 4 ID : 264330526447
Status : Answered
Chosen Option : 3

Q.13 The statement below has been given with bracketed text. Select the option with correct idiom for the bracketed text.

His mother and I (share the same opinion) about his decision to drop out of college.

- Ans**
- 1. leave no stone unturned
 - 2. feel blue
 - 3. paint the town red
 - 4. see eye to eye

Question Type : **MCQ**
Question ID : **264330136405**
Option 1 ID : **264330534384**
Option 2 ID : **264330534385**
Option 3 ID : **264330534386**
Option 4 ID : **264330534383**
Status : **Answered**
Chosen Option : **4**

Q.14 Select the wrongly spelt word.

- Ans**
- 1. Anonyomus
 - 2. Perfidious
 - 3. Circuitous
 - 4. Adulation

Question Type : **MCQ**
Question ID : **264330136314**
Option 1 ID : **264330534034**
Option 2 ID : **264330534032**
Option 3 ID : **264330534031**
Option 4 ID : **264330534033**
Status : **Answered**
Chosen Option : **1**

Q.15 Select the most appropriate option to substitute the bracketed segment in the given sentence. If there is no need to substitute it, select 'no substitution required'.

When it comes to face masks, the (market are flooded with choices).

- Ans**
- 1. No substitution required
 - 2. market are flooded off choices
 - 3. market is flooded with choices
 - 4. markets is flooded with choices

Question Type : **MCQ**
Question ID : **264330136514**
Option 1 ID : **264330534802**
Option 2 ID : **264330534801**
Option 3 ID : **264330534799**
Option 4 ID : **264330534800**
Status : **Answered**
Chosen Option : **3**

Q.16 Select the word from the options which is similar in meaning to the bracketed word given in the sentence below.

The sky was alight from (top) to horizon.

- Ans**
- 1. zenith
 - 2. summit
 - 3. base
 - 4. start

Question Type : **MCQ**
Question ID : **264330136401**
Option 1 ID : **264330534368**
Option 2 ID : **264330534370**
Option 3 ID : **264330534369**
Option 4 ID : **264330534367**
Status : **Answered**
Chosen Option : **1**

Q.17 Find the part of the given sentence that has an error in it. If there is no error, choose 'No error'.

The political economy of reforms teaches us one major lesson loud and clearer.

- Ans**
- 1. lesson loud and clearer.
 - 2. No error
 - 3. The political economy of reforms
 - 4. teaches us one major

Question Type : **MCQ**
Question ID : **264330135308**
Option 1 ID : **264330530145**
Option 2 ID : **264330530146**
Option 3 ID : **264330530143**
Option 4 ID : **264330530144**
Status : **Answered**
Chosen Option : **1**

Q.18 Choose the word that is opposite in meaning to the given word.

Absence

- Ans**
- 1. Dearth
 - 2. Vanity
 - 3. Surfeit
 - 4. Privation

Question Type : **MCQ**
Question ID : **264330136839**
Option 1 ID : **264330536050**
Option 2 ID : **264330536047**
Option 3 ID : **264330536048**
Option 4 ID : **264330536049**
Status : **Not Answered**
Chosen Option : **--**

Q.19 Fill in the blank with the most appropriate option.

Towel off and _____ your moisturizer immediately.

- Ans
- 1. surrender
 - 2. apply
 - 3. refer
 - 4. touch

Question Type : **MCQ**

Question ID : **264330136390**

Option 1 ID : **264330534327**

Option 2 ID : **264330534328**

Option 3 ID : **264330534330**

Option 4 ID : **264330534329**

Status : **Answered**

Chosen Option : **1**

Q.20 Select the most appropriate synonym of the given word.

Withdraw

- Ans
- 1. Combine
 - 2. Engage
 - 3. Persevere
 - 4. Retreat

Question Type : **MCQ**

Question ID : **264330136400**

Option 1 ID : **264330534365**

Option 2 ID : **264330534364**

Option 3 ID : **264330534363**

Option 4 ID : **264330534366**

Status : **Answered**

Chosen Option : **3**

Comprehension:

In the following passage some of the words have been deleted. Read the passage carefully and select the correct answer for the given blank out of the four alternatives.

The study, published today in a magazine, finds that kids (1) _____ played only individual sports, like tennis or gymnastics, tended to (2) _____ more mental health difficulties. As a researcher, Hoffmann has long been interested in how sports (3) _____ the psychological health of young people, partly because studies have (4) _____ both positive and negative associations between mental health and sports (5) _____ in children and adolescents.

SubQuestion No : 21

Q.21 Select the most appropriate option to fill in the blank No. 1.

- Ans**
- 1. whose
 - 2. who
 - 3. which
 - 4. that

Question Type : **MCQ**

Question ID : **264330136830**

Option 1 ID : **264330536011**

Option 2 ID : **264330536012**

Option 3 ID : **264330536013**

Option 4 ID : **264330536014**

Status : **Answered**

Chosen Option : **2**

Comprehension:

In the following passage some of the words have been deleted. Read the passage carefully and select the correct answer for the given blank out of the four alternatives.

The study, published today in a magazine, finds that kids (1) _____ played only individual sports, like tennis or gymnastics, tended to (2) _____ more mental health difficulties. As a researcher, Hoffmann has long been interested in how sports (3) _____ the psychological health of young people, partly because studies have (4) _____ both positive and negative associations between mental health and sports (5) _____ in children and adolescents.

SubQuestion No : 22

Q.22 Select the most appropriate option to fill in the blank No. 2.

- Ans**
- 1. claim
 - 2. face
 - 3. absorb
 - 4. breathe

Question Type : **MCQ**

Question ID : **264330136831**

Option 1 ID : **264330536016**

Option 2 ID : **264330536017**

Option 3 ID : **264330536015**

Option 4 ID : **264330536018**

Status : **Answered**

Chosen Option : **3**

Comprehension:

In the following passage some of the words have been deleted. Read the passage carefully and select the correct answer for the given blank out of the four alternatives.

The study, published today in a magazine, finds that kids (1) _____ played only individual sports, like tennis or gymnastics, tended to (2) _____ more mental health difficulties. As a researcher, Hoffmann has long been interested in how sports (3) _____ the psychological health of young people, partly because studies have (4) _____ both positive and negative associations between mental health and sports (5) _____ in children and adolescents.

SubQuestion No : 23

Q.23 Select the most appropriate option to fill in the blank No. 3.

- Ans**
- 1. impact
 - 2. torment
 - 3. thrash
 - 4. request

Question Type : **MCQ**
Question ID : **264330136832**
Option 1 ID : **264330536022**
Option 2 ID : **264330536019**
Option 3 ID : **264330536020**
Option 4 ID : **264330536021**
Status : **Answered**
Chosen Option : **1**

Comprehension:

In the following passage some of the words have been deleted. Read the passage carefully and select the correct answer for the given blank out of the four alternatives.

The study, published today in a magazine, finds that kids (1) _____ played only individual sports, like tennis or gymnastics, tended to (2) _____ more mental health difficulties. As a researcher, Hoffmann has long been interested in how sports (3) _____ the psychological health of young people, partly because studies have (4) _____ both positive and negative associations between mental health and sports (5) _____ in children and adolescents.

SubQuestion No : 24

Q.24 Select the most appropriate option to fill in the blank No. 4.

- Ans**
- 1. find
 - 2. founds
 - 3. found
 - 4. founded

Question Type : **MCQ**
Question ID : **264330136833**
Option 1 ID : **264330536025**
Option 2 ID : **264330536023**
Option 3 ID : **264330536026**
Option 4 ID : **264330536024**
Status : **Answered**
Chosen Option : **4**

Comprehension:

In the following passage some of the words have been deleted. Read the passage carefully and select the correct answer for the given blank out of the four alternatives.

The study, published today in a magazine, finds that kids (1) _____ played only individual sports, like tennis or gymnastics, tended to (2) _____ more mental health difficulties. As a researcher, Hoffmann has long been interested in how sports (3) _____ the psychological health of young people, partly because studies have (4) _____ both positive and negative associations between mental health and sports (5) _____ in children and adolescents.

SubQuestion No : 25

Q.25 Select the most appropriate option to fill in the blank No. 5.

- Ans**
- 1. celebration
 - 2. establishment
 - 3. remuneration
 - 4. participation

Question Type : **MCQ**

Question ID : **264330136834**

Option 1 ID : **264330536028**

Option 2 ID : **264330536029**

Option 3 ID : **264330536030**

Option 4 ID : **264330536027**

Status : **Answered**

Chosen Option : **4**

Multi Tasking Non Technical Staff and Havaladar CBIC and CBN Examination 2022

Roll Number	KD Job Updates
Candidate Name	KD Job Updates
Venue Name	iON Digital Zone iDZ Borjhar
Exam Date	08/05/2023
Exam Time	12:00 PM - 2:00 PM
Subject	MTS Non Tech Havaladar CBIC and CBN Examination 2022

Section : Numerical and Mathematical Ability

Q.1 सोहन समान दूरी की चार यात्राएँ करता है। पहली यात्रा में उसकी चाल 240 km/hr थी और बाद की प्रत्येक यात्रा में उसकी चाल पिछली यात्रा की चाल से आधी थी। इन चारों यात्राओं में सोहन की औसत चाल क्या है?

- Ans
- 1. 52 km/hr
 - 2. 50 km/hr
 - 3. 60 km/hr
 - 4. 64 km/hr

Question Type : MCQ
Question ID : 264330137134
Option 1 ID : 264330537181
Option 2 ID : 264330537182
Option 3 ID : 264330537179
Option 4 ID : 264330537180
Status : Answered
Chosen Option : 4

Q.2 रानी अकेले किसी कार्य को 10 दिनों में कर सकती है और प्रिया अकेले उसी कार्य को 12 दिनों में कर सकती है और गुड्डू अकेले उसी कार्य को 15 दिनों में कर सकता है। यदि वे उस कार्य को साथ मिलकर करते हैं और उन्हें Rs. 6000 का भुगतान किया जाता है, तो उसमें प्रिया का हिस्सा कितना है?

- Ans
- 1. Rs.1800
 - 2. Rs.1600
 - 3. Rs.2500
 - 4. Rs.2000

Question Type : MCQ
Question ID : 264330137174
Option 1 ID : 264330537341
Option 2 ID : 264330537342
Option 3 ID : 264330537339
Option 4 ID : 264330537340
Status : Answered
Chosen Option : 4

Q.3 कबीर 3 मील प्रति घंटे (miles per hour) की चाल से एक पहाड़ी पर चढ़ता है और 5 मील प्रति घंटे की चाल से नीचे उतरता है। यदि पूरी यात्रा में कुल 10 घंटे का समय लगता है, तो पहाड़ी की चोटी और तलहटी के बीच की दूरी कितनी थी?

- Ans
- ✓ 1. 18.75 मील
 - ✗ 2. 20.5 मील
 - ✗ 3. 37.5 मील
 - ✗ 4. 3.75 मील

Question Type : MCQ
Question ID : 264330133593
Option 1 ID : 264330523396
Option 2 ID : 264330523398
Option 3 ID : 264330523395
Option 4 ID : 264330523397
Status : Answered
Chosen Option : 1

Q.4 $1.65 \times 1.65 \times 1.65 + 0.35 \times 0.35 \times 0.35 + 3.465$ का मान क्या है?

- Ans
- ✓ 1. 8
 - ✗ 2. 7.5
 - ✗ 3. 5.5
 - ✗ 4. 4

Question Type : MCQ
Question ID : 264330139093
Option 1 ID : 264330544980
Option 2 ID : 264330544981
Option 3 ID : 264330544982
Option 4 ID : 264330544979
Status : Answered
Chosen Option : 3

Q.5 (2 : 5), (5 : 11) और (33 : 8) का मिश्रित अनुपात क्या है?

- Ans
- ✗ 1. 2 : 5
 - ✓ 2. 3 : 4
 - ✗ 3. 33 : 5
 - ✗ 4. 2 : 11

Question Type : MCQ
Question ID : 264330133589
Option 1 ID : 264330523380
Option 2 ID : 264330523379
Option 3 ID : 264330523382
Option 4 ID : 264330523381
Status : Not Answered
Chosen Option : --

Q.6 एक वस्तु का क्रय मूल्य Rs.350 है। यदि लाभ प्रतिशत 35 प्रतिशत है, तो लाभ का मूल्य क्या है?

- Ans 1. Rs.122.5
 2. Rs.112.8
 3. Rs.145.6
 4. Rs.135.6

Question Type : MCQ

Question ID : 264330135049

Option 1 ID : 264330529131

Option 2 ID : 264330529133

Option 3 ID : 264330529132

Option 4 ID : 264330529134

Status : Answered

Chosen Option : 1

Q.7 $\frac{1}{5}$ of 30 - $(\frac{1}{4})$ of 20 + 1 का मान है:

- Ans 1. 0
 2. 2
 3. 6
 4. 12

Question Type : MCQ

Question ID : 264330133581

Option 1 ID : 264330523349

Option 2 ID : 264330523350

Option 3 ID : 264330523348

Option 4 ID : 264330523347

Status : Answered

Chosen Option : 2

Q.8 एक बेईमान दुकानदार Rs.45 प्रति किलोग्राम की दर से चीनी बेचता है। चीनी का क्रय मूल्य Rs.40 प्रति किलोग्राम है। ऐसा करने के बाद भी वह 1 kg के प्रत्येक पैकेट से 100 gm चीनी निकालकर अपना मुनाफा बढ़ाने की कोशिश करता है। दुकानदार का लाभ प्रतिशत कितना है?

- Ans 1. 35%
 2. 30%
 3. 20%
 4. 25%

Question Type : MCQ

Question ID : 264330133587

Option 1 ID : 264330523374

Option 2 ID : 264330523373

Option 3 ID : 264330523371

Option 4 ID : 264330523372

Status : Answered

Chosen Option : 3

Q.9 उस अर्धगोले के आयतन का $\frac{1}{21}$ वां भाग ज्ञात कीजिए जिसकी त्रिज्या 4.2 m है।

- Ans
- 1. 7.1 m^3
 - 2. 8.2 m^3
 - 3. 6.6 m^3
 - 4. 7.3 m^3

Question Type : MCQ

Question ID : 264330135410

Option 1 ID : 264330530550

Option 2 ID : 264330530549

Option 3 ID : 264330530547

Option 4 ID : 264330530548

Status : Answered

Chosen Option : 4

Q.10 सुरेश अकेले प्रतिदिन 1 घंटा कार्य करके किसी कार्य को 10 दिनों में पूरा कर सकता है। शालू अकेले उसी कार्य को प्रतिदिन 5 घंटे कार्य करके 2 दिनों में कर सकती है। इसी कार्य को 10 दिनों में पूरा करने के लिए उन्हें साथ मिलकर एक दिन में कितने घंटे कार्य करना होगा?

- Ans
- 1. 1.5 घंटे
 - 2. 1 घंटे
 - 3. 0.5 घंटे
 - 4. 2 घंटे

Question Type : MCQ

Question ID : 264330139077

Option 1 ID : 264330544915

Option 2 ID : 264330544918

Option 3 ID : 264330544917

Option 4 ID : 264330544916

Status : Answered

Chosen Option : 3

Q.11 प्रत्येक 9 cm किनारे वाले दो घनों को जोड़कर एक घनाभ बनाया जाता है। इस नए घनाभ का कुल पृष्ठीय क्षेत्रफल कितना है?

- Ans
- 1. 990 cm^2
 - 2. 1024 cm^2
 - 3. 810 cm^2
 - 4. 775 cm^2

Question Type : MCQ

Question ID : 264330137189

Option 1 ID : 264330537402

Option 2 ID : 264330537400

Option 3 ID : 264330537401

Option 4 ID : 264330537399

Status : Answered

Chosen Option : 3

Q.12 नीचे दी गई तालिका में 6 अलग-अलग स्कूलों में छात्रों की संख्या को दर्शाया गया है।

स्कूल	छात्र
A	120
B	60
C	70
D	80
E	30
F	50

स्कूल A में छात्रों की संख्या, स्कूल F में छात्रों की संख्या का कितना प्रतिशत है?

- Ans
- 1. 41.66 प्रतिशत
 - 2. 120 प्रतिशत
 - 3. 200 प्रतिशत
 - 4. 240 प्रतिशत

Question Type : MCQ

Question ID : 264330139094

Option 1 ID : 264330544986

Option 2 ID : 264330544985

Option 3 ID : 264330544983

Option 4 ID : 264330544984

Status : Answered

Chosen Option : 4

Q.13 Rs. 2400 के मूलधन पर 8 प्रतिशत वार्षिक दर से 6 वर्षों का साधारण ब्याज कितना होगा?

- Ans
- 1. Rs. 1082
 - 2. Rs. 972
 - 3. Rs. 1152
 - 4. Rs. 1232

Question Type : MCQ

Question ID : 264330137884

Option 1 ID : 264330540144

Option 2 ID : 264330540146

Option 3 ID : 264330540143

Option 4 ID : 264330540145

Status : Answered

Chosen Option : 3

Q.14 15%, 10% और 5% के क्रमिक बढ़ों के समतुल्य एक एकल बढ़ा _____ के बराबर है।

- Ans
- 1. 32%
 - 2. 31.5%
 - 3. 27.325%
 - 4. 26.5%

Question Type : MCQ

Question ID : 264330133588

Option 1 ID : 264330523376

Option 2 ID : 264330523375

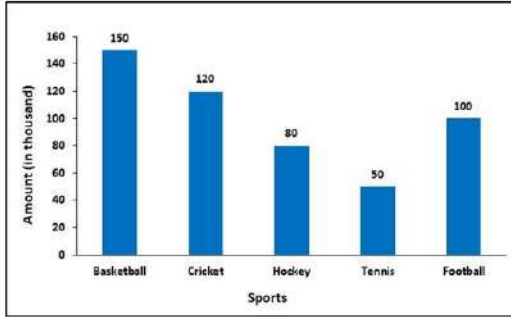
Option 3 ID : 264330523377

Option 4 ID : 264330523378

Status : Answered

Chosen Option : 3

Q.15 निम्नलिखित दंड आलेख में किसी विशिष्ट वर्ष में एक स्कूल प्रशासन द्वारा विभिन्न खेलों पर खर्च की गई धनराशि को दर्शाया गया है। हॉकी और फुटबॉल पर खर्च की गई धनराशि, बास्केटबॉल और टेनिस पर खर्च की गई राशि का कितना प्रतिशत है?



Amount (in thousand) = धनराशि (हजार में)

Sports = खेल

Basketball = बास्केटबॉल, Cricket = क्रिकेट, Hockey = हॉकी, Tennis = टेनिस, Football = फुटबॉल

- Ans
- 1. 20%
 - 2. 50%
 - 3. 70%
 - 4. 90%

Question Type : MCQ

Question ID : 264330133597

Option 1 ID : 264330523411

Option 2 ID : 264330523412

Option 3 ID : 264330523413

Option 4 ID : 264330523414

Status : Answered

Chosen Option : 4

Q.16 पाँच क्रमागत संख्याओं का औसत 53 है। इनमें से सबसे बड़ी संख्या कौन-सी है?

- Ans
- 1. 52
 - 2. 53
 - 3. 55
 - 4. 54

Question Type : MCQ

Question ID : 264330133583

Option 1 ID : 264330523355

Option 2 ID : 264330523356

Option 3 ID : 264330523358

Option 4 ID : 264330523357

Status : Answered

Chosen Option : 3

Q.17 यदि 540 kg घास 100 गायों के लिए 9 दिन का पर्याप्त चारा है, तो 900 kg घास 50 गायों के लिए कितने दिन के लिए पर्याप्त होगी?

- Ans
- 1. 10 दिन
 - 2. 50 दिन
 - 3. 30 दिन
 - 4. 20 दिन

Question Type : MCQ

Question ID : 264330133590

Option 1 ID : 264330523385

Option 2 ID : 264330523383

Option 3 ID : 264330523384

Option 4 ID : 264330523386

Status : Answered

Chosen Option : 3

Q.18 दो सह-अभाज्य संख्याओं का गुणनफल 483 है। दोनों संख्याओं का लघुतम समापवर्त्य ज्ञात कीजिए।

- Ans
- 1. 21
 - 2. 483
 - 3. 1
 - 4. 23

Question Type : MCQ

Question ID : 264330138370

Option 1 ID : 264330542089

Option 2 ID : 264330542087

Option 3 ID : 264330542088

Option 4 ID : 264330542090

Status : Answered

Chosen Option : 2

Q.19 840, 1500 का कितना प्रतिशत है?

- Ans
- 1. 64 प्रतिशत
 - 2. 57 प्रतिशत
 - 3. 56 प्रतिशत
 - 4. 62 प्रतिशत

Question Type : MCQ
Question ID : 264330137879
Option 1 ID : 264330540124
Option 2 ID : 264330540123
Option 3 ID : 264330540126
Option 4 ID : 264330540125
Status : Answered
Chosen Option : 3

Q.20 एक कार पहले घंटे के लिए 40 km/hr की चाल से और अगले घंटे के लिए 60 km/hr की चाल से यात्रा करती है। कार की औसत चाल क्या होगी?

- Ans
- 1. 50 km/hr
 - 2. 40 km/hr
 - 3. 60 km/hr
 - 4. 45 km/hr

Question Type : MCQ
Question ID : 264330141042
Option 1 ID : 264330552516
Option 2 ID : 264330552515
Option 3 ID : 264330552517
Option 4 ID : 264330552518
Status : Answered
Chosen Option : 1

Section : Reasoning Ability and Problem Solving

Q.1 एक निश्चित कूट भाषा में, 'READER' को 'UHGDHU' लिखा जाता है। उसी कूट भाषा में 'SENIOR' को कैसे लिखा जाएगा?

- Ans
- 1. URMQHV
 - 2. URLQIV
 - 3. URLQHV
 - 4. URLQHW

Question Type : MCQ
Question ID : 264330137371
Option 1 ID : 264330538112
Option 2 ID : 264330538113
Option 3 ID : 264330538114
Option 4 ID : 264330538111
Status : Answered
Chosen Option : 3

Q.2 छः मित्र पवन, कांता, ऋषभ, सुभम, मयंक और विक्रम एक परिधि में केंद्र की ओर मुख करके बैठे हैं। पवन, विक्रम के ठीक बाएँ पर है। ऋषभ, पवन के दाएँ से चौथे स्थान पर है। पवन और ऋषभ के बीच केवल मयंक बैठा है। सुभम, विक्रम के आसन्न नहीं बैठा है। सुभम के ठीक दाएँ कौन बैठा है?

- Ans
- 1. मयंक
 - 2. पवन
 - 3. कांता
 - 4. ऋषभ

Question Type : MCQ
Question ID : 264330133327
Option 1 ID : 264330522346
Option 2 ID : 264330522345
Option 3 ID : 264330522344
Option 4 ID : 264330522343
Status : Answered
Chosen Option : 4

Q.3 उस विकल्प को चुनिए जो तीसरे अक्षर-समूह से ठीक उसी तरह संबंधित है जिस तरह दूसरा अक्षर-समूह पहले अक्षर-समूह से संबंधित है।
MNO : RST :: GHI : ?

- Ans
- 1. MNL
 - 2. LOM
 - 3. LMN
 - 4. LNO

Question Type : MCQ
Question ID : 264330133321
Option 1 ID : 264330522320
Option 2 ID : 264330522321
Option 3 ID : 264330522319
Option 4 ID : 264330522322
Status : Answered
Chosen Option : 3

Q.4 दिए गए पैटर्न का ध्यानपूर्वक अध्ययन कीजिए और उस संख्या को चुनिए जो इसमें प्रश्न चिन्ह (?) के स्थान पर आ सकती है।
प्रथम पंक्ति- 80, 40, 160
द्वितीय पंक्ति- 30, 15, 60
तृतीय पंक्ति- 24, 12, ?

- Ans
- 1. 54
 - 2. 38
 - 3. 48
 - 4. 65

Question Type : MCQ
Question ID : 264330133334
Option 1 ID : 264330522374
Option 2 ID : 264330522371
Option 3 ID : 264330522372
Option 4 ID : 264330522373
Status : Answered
Chosen Option : 3

Q.5 एक निश्चित कूट भाषा में, 'HEG' को '840' लिखा जाता है, 'JFD' को '720' लिखा जाता है। उस कूट भाषा में 'JDK' को कैसे लिखा जाएगा?

- Ans
- 1. 1400
 - 2. 1280
 - 3. 1320
 - 4. 1380

Question Type : MCQ
Question ID : 264330137093
Option 1 ID : 264330537015
Option 2 ID : 264330537017
Option 3 ID : 264330537018
Option 4 ID : 264330537016
Status : Answered
Chosen Option : 3

Q.6 दी गई श्रृंखला में निम्नलिखित में से कौन-सी संख्या प्रश्न चिन्ह (?) के स्थान पर आएगी?
68, 62, 50, 32, 8, -22, ?

- Ans
- 1. 58
 - 2. -53
 - 3. -58
 - 4. -75

Question Type : MCQ
Question ID : 264330137799
Option 1 ID : 264330539805
Option 2 ID : 264330539806
Option 3 ID : 264330539803
Option 4 ID : 264330539804
Status : Answered
Chosen Option : 3

Q.7 दो कथन दिए गए हैं और उनके बाद दो निष्कर्ष I और II दिए गए हैं। कथनों को सत्य मानते हुए, चाहे वे सामान्यतः ज्ञात तथ्यों से अलग प्रतीत होते हों, निश्चय कीजिए कि कौन-सा निष्कर्ष तार्किक रूप से कथनों के अनुसार है।

कथन:

सभी मेज़ें, मज़बूत हैं।

कोई मज़बूत, कमजोर नहीं है।

निष्कर्ष:

I. कोई मेज़, कमजोर नहीं है।

II. कुछ कमजोर, मेज़ें हैं।

- Ans
- 1. निष्कर्ष I और II दोनों कथनों के अनुसार हैं
 - 2. सिर्फ निष्कर्ष I कथनों के अनुसार है
 - 3. सिर्फ निष्कर्ष II कथनों के अनुसार है
 - 4. निष्कर्ष I और II में से कोई भी कथनों के अनुसार नहीं है

Question Type : MCQ
Question ID : 264330133330
Option 1 ID : 264330522357
Option 2 ID : 264330522355
Option 3 ID : 264330522356
Option 4 ID : 264330522358
Status : Answered
Chosen Option : 4

Q.8 एक लिखित कूट भाषा में, 'SNOW' को '21, 16, 17, 25' लिखा जाता है, 'RIDE' को '20, 11, 6, 7' लिखा जाता है। उस कूट भाषा में 'TAPE' को कैसे लिखा जाएगा?

- Ans
- 1. 20, 3, 18, 7
 - 2. 22, 3, 17, 7
 - 3. 22, 3, 18, 7
 - 4. 22, 3, 18, 6

Question Type : MCQ

Question ID : 264330138524

Option 1 ID : 264330542705

Option 2 ID : 264330542703

Option 3 ID : 264330542704

Option 4 ID : 264330542706

Status : Answered

Chosen Option : 3

Q.9 पाँच पुरुष M, N, O, P और Q एक पंक्ति में उत्तर की ओर मुख करके बैठे हैं। M एक छोर पर बैठा है और O दूसरे छोर पर बैठा है। Q, M के ठीक बाएँ और P के ठीक दाएँ पर बैठा है। O के दाएँ से तीसरे स्थान पर कौन बैठा है?

- Ans
- 1. N
 - 2. Q
 - 3. P
 - 4. M

Question Type : MCQ

Question ID : 264330133326

Option 1 ID : 264330522340

Option 2 ID : 264330522342

Option 3 ID : 264330522341

Option 4 ID : 264330522339

Status : Answered

Chosen Option : 2

Q.10 दी गई श्रृंखला में निम्नलिखित में से कौन-सी संख्या प्रश्न चिन्ह (?) के स्थान पर आएगी?
55, 42, 31, 22, 15, 10, ?

- Ans
- 1. 6
 - 2. 5
 - 3. 7
 - 4. 3

Question Type : MCQ

Question ID : 264330133332

Option 1 ID : 264330522363

Option 2 ID : 264330522366

Option 3 ID : 264330522364

Option 4 ID : 264330522365

Status : Answered

Chosen Option : 3

Q.11 उस विकल्प को चुनिए जो तीसरी संख्या से ठीक उसी तरह संबंधित है जिस तरह दूसरी संख्या पहली संख्या से संबंधित है।
435 : 87 :: 285 : ?

- Ans
- 1. 58
 - 2. 57
 - 3. 56
 - 4. 59

Question Type : MCQ

Question ID : 264330137801

Option 1 ID : 264330539811

Option 2 ID : 264330539812

Option 3 ID : 264330539813

Option 4 ID : 264330539814

Status : Answered

Chosen Option : 2

Q.12 दो कथन दिए गए हैं और उनके बाद दो निष्कर्ष I और II दिए गए हैं। कथनों को सत्य मानते हुए, चाहे वे सामान्यतः जात तथ्यों से अलग प्रतीत होते हों, निश्चय कीजिए कि कौन-सा निष्कर्ष तार्किक रूप से कथनों के अनुसार है।

कथन:

सभी बोलते, काली हैं।

कुछ काले, सफेद हैं।

निष्कर्ष:

I. सभी काले, बोलते हैं।

II. कुछ काले, सफेद नहीं हैं।

- Ans
- 1. सिर्फ निष्कर्ष II कथनों के अनुसार है
 - 2. निष्कर्ष I और II में से कोई भी कथनों के अनुसार नहीं है
 - 3. निष्कर्ष I और II दोनों कथनों के अनुसार हैं
 - 4. सिर्फ निष्कर्ष I कथनों के अनुसार है

Question Type : MCQ

Question ID : 264330133329

Option 1 ID : 264330522352

Option 2 ID : 264330522354

Option 3 ID : 264330522353

Option 4 ID : 264330522351

Status : Answered

Chosen Option : 1

Q.13 अलग-अलग कद वाले सात मित्र हारून, इमान, जेसन, कीर्ति, लिसा, मोहन और नीति अपने कद के अवरोही क्रम में खड़े हैं। सबसे ऊँचा व्यक्ति पंक्ति में सबसे आगे और सबसे छोटा व्यक्ति पंक्ति में सबसे आखिर में खड़ा है। हारून, लिसा के ठीक पीछे खड़ा है, जो कीर्ति के ठीक पीछे खड़ी है। मोहन और नीति के बीच सिर्फ दो व्यक्ति खड़े हैं। इमान आगे से दूसरे स्थान पर खड़ा है। मोहन सबसे ऊँचा नहीं है। पंक्ति में सबसे आगे कौन खड़ा है?

- Ans**
- 1. मोहन
 - 2. नीति
 - 3. जेसन
 - 4. कीर्ति

Question Type : **MCQ**

Question ID : **264330133328**

Option 1 ID : **264330522347**

Option 2 ID : **264330522349**

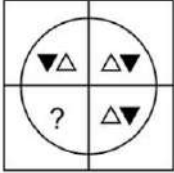
Option 3 ID : **264330522350**

Option 4 ID : **264330522348**

Status : **Answered**

Chosen Option : **2**

Q.14 उस विकल्प आकृति को चुलिए जो नीचे दी गई आकृति में पैटर्न को पूरा करने के लिए प्रश्न चिन्ह (?) के स्थान पर आएगी। (घूर्णन की अनुमति नहीं है)।



Ans

- 1.
- 2.
- 3.
- 4.

Question Type : **MCQ**

Question ID : **264330133339**

Option 1 ID : **264330522391**

Option 2 ID : **264330522393**

Option 3 ID : **264330522392**

Option 4 ID : **264330522394**

Status : **Answered**

Chosen Option : **4**

Q.15 दी गई श्रृंखला में निम्नलिखित में से कौन-सा अक्षर प्रश्न चिन्ह (?) के स्थान पर आएगा?
d, f, h, j, l, n, p, r,?

- Ans
- ✓ 1. t
 - ✗ 2. s
 - ✗ 3. u
 - ✗ 4. v

Question Type : MCQ
Question ID : 264330133320
Option 1 ID : 264330522316
Option 2 ID : 264330522315
Option 3 ID : 264330522317
Option 4 ID : 264330522318
Status : Answered
Chosen Option : 1

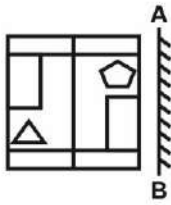
Q.16 (::) के बाईं ओर दिए गए शब्द आपस में किसी तर्क/नियम/संबंध द्वारा संबंधित हैं। समान तर्क/नियम/संबंध के आधार पर दिए गए विकल्पों में से (::) के दाईं ओर लुप्त शब्द/शब्द युग्म को चुनिए।

गुजरात : गांधीनगर:: राजस्थान : ?

- Ans
- ✗ 1. जोधपुर
 - ✓ 2. जयपुर
 - ✗ 3. उदयपुर
 - ✗ 4. चंडीगढ़

Question Type : MCQ
Question ID : 264330138478
Option 1 ID : 264330542521
Option 2 ID : 264330542519
Option 3 ID : 264330542520
Option 4 ID : 264330542522
Status : Answered
Chosen Option : 2

Q.17 यदि एक दर्पण को रेखा AB पर रखा जाए, तो दी गई विकल्प आकृतियों में से कौन-सी आकृति प्रश्न आकृति का सही प्रतिबिम्ब होगी?



Ans

✓ 1.



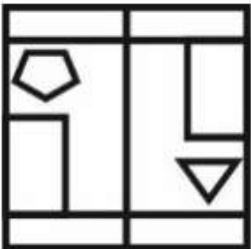
✗ 2.



✗ 3.



✗ 4.



Question Type : MCQ

Question ID : 264330138869

Option 1 ID : 264330544085

Option 2 ID : 264330544086

Option 3 ID : 264330544083

Option 4 ID : 264330544084

Status : Answered

Chosen Option : 1

Q.18 (::) के बाईं ओर दिए गए शब्द आपस में किसी तर्क/नियम/संबंध द्वारा संबंधित हैं। समान तर्क/नियम/संबंध के आधार पर दिए गए विकल्पों में से (::) के दाईं ओर लुप्त शब्द/शब्द युग्म को चुनिए।

वॉट : शक्ति (Power) :: ओम : ?

- Ans
- 1. आयतन
 - 2. विद्युत धारा
 - 3. बल
 - 4. विद्युत प्रतिरोध

Question Type : MCQ

Question ID : 264330137087

Option 1 ID : 264330536993

Option 2 ID : 264330536992

Option 3 ID : 264330536994

Option 4 ID : 264330536991

Status : Answered

Chosen Option : 4

Q.19 उस विकल्प आकृति को चुनिए जिसमें दी गई आकृति निहित है।(घूर्णन की अनुमति नहीं है)



Ans

- 1.
- 2.
- 3.
- 4.

Question Type : MCQ

Question ID : 264330138868

Option 1 ID : 264330544082

Option 2 ID : 264330544080

Option 3 ID : 264330544081

Option 4 ID : 264330544079

Status : Answered

Chosen Option : 2

Q.20 उस विकल्प को चुनिए जो तीसरे शब्द से ठीक उसी तरह संबंधित है जिस तरह दूसरा शब्द पहले शब्द से संबंधित है।
अंडविज्ञान : अंडे :: कवक विज्ञान : ?

- Ans
- 1. विषाणु
 - 2. कवक
 - 3. जीवाणु
 - 4. प्रोटोजोआ

Question Type : MCQ
Question ID : 264330133322
Option 1 ID : 264330522325
Option 2 ID : 264330522326
Option 3 ID : 264330522323
Option 4 ID : 264330522324
Status : Answered
Chosen Option : 2

Section : General Awareness

Q.1 गुरु केलुचरण महापात्र पुरस्कार की शुरुआत वर्ष 1995 में की गई थी। गुरु केलुचरण महापात्र को किस नृत्य शैली के लिए जाना जाता था?

- Ans
- 1. ओडिसी
 - 2. छऊ
 - 3. मणिपुरी
 - 4. कथक

Question Type : MCQ
Question ID : 264330137394
Option 1 ID : 264330538203
Option 2 ID : 264330538206
Option 3 ID : 264330538204
Option 4 ID : 264330538205
Status : Answered
Chosen Option : 1

Q.2 उत्पादित वस्तुओं और सेवाओं के वार्षिक मूल्य की गणना करने के लिए उपयोग की जाने वाली उत्पाद विधि को _____ भी कहा जाता है।

- Ans
- 1. आय विधि
 - 2. मूल्यहास विधि
 - 3. व्यय विधि
 - 4. मूल्यवर्धित विधि

Question Type : MCQ
Question ID : 264330137397
Option 1 ID : 264330538218
Option 2 ID : 264330538215
Option 3 ID : 264330538216
Option 4 ID : 264330538217
Status : Answered
Chosen Option : 1

Q.3 विश्व का सबसे बड़ा महाद्वीप कौन-सा है ?

- Ans
- 1. अफ्रीका
 - 2. एशिया
 - 3. दक्षिण अमेरिका
 - 4. उत्तर अमेरिका

Question Type : MCQ
Question ID : 264330137902
Option 1 ID : 264330540217
Option 2 ID : 264330540218
Option 3 ID : 264330540216
Option 4 ID : 264330540215
Status : Answered
Chosen Option : 2

Q.4 निम्नलिखित में से कौन-सी जलसंधि श्रीलंका को भारत से अलग करती है?

- Ans
- 1. यूकाटन जलसंधि (Yucatan Strait)
 - 2. मलक्का जलसंधि (Malacca Strait)
 - 3. पाक जलसंधि (Palk Strait)
 - 4. सुंडा जलसंधि (Sunda Strait)

Question Type : MCQ
Question ID : 264330137073
Option 1 ID : 264330536937
Option 2 ID : 264330536938
Option 3 ID : 264330536935
Option 4 ID : 264330536936
Status : Answered
Chosen Option : 3

Q.5 सातवाहन का सबसे महत्वपूर्ण शासक _____ था।

- Ans
- 1. गौतमीपुत्र श्री सातकर्णी (Gautamiputra Shri Satakarni)
 - 2. पुलुमावी चतुर्थ (Pulumavi IV)
 - 3. सिमुका (Simuka)
 - 4. वशिष्ठपुत्र पुलुमावी (Vasisthiputra Pulamavi)

Question Type : MCQ
Question ID : 264330138942
Option 1 ID : 264330544375
Option 2 ID : 264330544378
Option 3 ID : 264330544377
Option 4 ID : 264330544376
Status : Answered
Chosen Option : 1

Q.6 भारतीय संविधान का कौन-सा अनुच्छेद अपने धर्म विषयक कार्यों का प्रबंध करने की स्वतंत्रता प्रदान करता है?

- Ans
- ✓ 1. अनुच्छेद 26
 - ✗ 2. अनुच्छेद 30
 - ✗ 3. अनुच्छेद 210
 - ✗ 4. अनुच्छेद 5

Question Type : MCQ
Question ID : 264330133668
Option 1 ID : 264330523696
Option 2 ID : 264330523697
Option 3 ID : 264330523698
Option 4 ID : 264330523695
Status : Answered
Chosen Option : 1

Q.7 निम्नलिखित में से किस नदी का उद्गम महाराष्ट्र में होता है?

- Ans
- ✓ 1. गोदावरी
 - ✗ 2. यमुना
 - ✗ 3. तापी
 - ✗ 4. नर्मदा

Question Type : MCQ
Question ID : 264330133658
Option 1 ID : 264330523658
Option 2 ID : 264330523655
Option 3 ID : 264330523656
Option 4 ID : 264330523657
Status : Answered
Chosen Option : 1

Q.8 निम्नलिखित में से किसे "सेरीकल्चर" कहा जाता है?

- Ans
- ✗ 1. अंगूरों की खेती
 - ✗ 2. मत्स्यपालन
 - ✓ 3. रेशम के कीटों का वाणिज्यिक पालन
 - ✗ 4. फलों को उगाना

Question Type : MCQ
Question ID : 264330137404
Option 1 ID : 264330538243
Option 2 ID : 264330538245
Option 3 ID : 264330538244
Option 4 ID : 264330538246
Status : Answered
Chosen Option : 3

Q.9 निम्नलिखित में से कौन-सा एक कृत्रिम मधुरक (artificial sweetener) है?

- Ans
- 1. सोडियम बेंजोएट
 - 2. शर्करा (ग्लूकोस)
 - 3. लैक्टामेज़ (Lactamase)
 - 4. सैकरीन (Saccharin)

Question Type : MCQ

Question ID : 264330137901

Option 1 ID : 264330540213

Option 2 ID : 264330540211

Option 3 ID : 264330540212

Option 4 ID : 264330540214

Status : Answered

Chosen Option : 1

Q.10 भगत सिंह और बी.के. दत्त ने _____ को केंद्रीय विधान परिषद में बम फेंका था।

- Ans
- 1. 8 अप्रैल 1930
 - 2. 10 अप्रैल 1929
 - 3. 10 अप्रैल 1930
 - 4. 8 अप्रैल 1929

Question Type : MCQ

Question ID : 264330138945

Option 1 ID : 264330544388

Option 2 ID : 264330544389

Option 3 ID : 264330544390

Option 4 ID : 264330544387

Status : Answered

Chosen Option : 4

Q.11 2011 की जनगणना के अनुसार निम्न में से किस राज्य का लिंगानुपात सबसे कम है?

- Ans
- 1. बिहार
 - 2. हरियाणा
 - 3. झारखंड
 - 4. सिक्किम

Question Type : MCQ

Question ID : 264330137072

Option 1 ID : 264330536933

Option 2 ID : 264330536932

Option 3 ID : 264330536934

Option 4 ID : 264330536931

Status : Answered

Chosen Option : 2

Q.12 एक फुटबॉल टीम में कितने खिलाड़ी मैदान (field players) पर होते हैं?

- Ans
- 1. 14
 - 2. 12
 - 3. 13
 - 4. 11

Question Type : MCQ
Question ID : 264330137917
Option 1 ID : 264330540278
Option 2 ID : 264330540276
Option 3 ID : 264330540277
Option 4 ID : 264330540275
Status : Answered
Chosen Option : 4

Q.13 मानव शरीर में निम्नलिखित में से कौन-सा अंग निमोनिया रोग से सबसे अधिक प्रभावित होता है?

- Ans
- 1. फेफड़े
 - 2. वृक्क
 - 3. हृदय
 - 4. मूत्राशय

Question Type : MCQ
Question ID : 264330133654
Option 1 ID : 264330523640
Option 2 ID : 264330523642
Option 3 ID : 264330523639
Option 4 ID : 264330523641
Status : Answered
Chosen Option : 1

Q.14 भारत के संविधान की व्याख्या करने की शक्ति किसके पास है?

- Ans
- 1. भारत के राष्ट्रपति
 - 2. केवल सर्वोच्च न्यायालय
 - 3. केवल उच्च न्यायालय
 - 4. सर्वोच्च न्यायालय और उच्च न्यायालय दोनों

Question Type : MCQ
Question ID : 264330138932
Option 1 ID : 264330544338
Option 2 ID : 264330544335
Option 3 ID : 264330544336
Option 4 ID : 264330544337
Status : Answered
Chosen Option : 2

Q.15 निम्नलिखित में से किस नृत्य शैली का संबंध राजस्थान से है?

- Ans
- 1. कथक
 - 2. कालबेलिया
 - 3. ओडिसी
 - 4. भरतनाट्यम

Question Type : MCQ
Question ID : 264330133650
Option 1 ID : 264330523623
Option 2 ID : 264330523626
Option 3 ID : 264330523624
Option 4 ID : 264330523625
Status : Answered
Chosen Option : 2

Q.16 2022 तक, किस भारतीय संगीतकार के पास सबसे अधिक ऑस्कर पुरस्कार हैं?

- Ans
- 1. लता मंगेशकर
 - 2. गुलज़ार
 - 3. ए आर रहमान
 - 4. आशा भोसले

Question Type : MCQ
Question ID : 264330133666
Option 1 ID : 264330523689
Option 2 ID : 264330523687
Option 3 ID : 264330523690
Option 4 ID : 264330523688
Status : Answered
Chosen Option : 3

Q.17 निम्नलिखित में से कौन-सा पदार्थ विद्युत का सुचालक है?

- Ans
- 1. अभ्रक (Mica)
 - 2. काँच
 - 3. एबोनाइट (Ebonite)
 - 4. चाँदी

Question Type : MCQ
Question ID : 264330137899
Option 1 ID : 264330540206
Option 2 ID : 264330540203
Option 3 ID : 264330540204
Option 4 ID : 264330540205
Status : Answered
Chosen Option : 4

Q.18 "अंबुबाची मेला (Ambubachi Mela)" कहाँ आयोजित किया जाता है?

- Ans
- ✓ 1. गुवाहाटी
 - ✗ 2. पटना
 - ✗ 3. लखनऊ
 - ✗ 4. पुणे

Question Type : MCQ
Question ID : 264330138922
Option 1 ID : 264330544295
Option 2 ID : 264330544296
Option 3 ID : 264330544297
Option 4 ID : 264330544298
Status : Answered
Chosen Option : 1

Q.19 'फ्रीडम इन एक्साइल (Freedom in Exile)' _____ की आत्मकथात्मक किताब है।

- Ans
- ✗ 1. जवाहर लाल नेहरू
 - ✓ 2. दलाई लामा
 - ✗ 3. महात्मा गांधी
 - ✗ 4. जे. बी. कृपलानी

Question Type : MCQ
Question ID : 264330137392
Option 1 ID : 264330538196
Option 2 ID : 264330538195
Option 3 ID : 264330538198
Option 4 ID : 264330538197
Status : Answered
Chosen Option : 2

Q.20 चंगेज़ खान के नेतृत्व में मंगोलों ने _____ में उत्तर-पूर्वी ईरान में ट्रांसऑक्ससियाना पर हमला किया।

- Ans
- ✗ 1. 1212
 - ✓ 2. 1219
 - ✗ 3. 1230
 - ✗ 4. 1227

Question Type : MCQ
Question ID : 264330137908
Option 1 ID : 264330540242
Option 2 ID : 264330540239
Option 3 ID : 264330540241
Option 4 ID : 264330540240
Status : Answered
Chosen Option : 2

Q.21 किस प्रसिद्ध भारतीय खिलाड़ी को 'कैप्टन कूल (Captain Cool)' के नाम से जाना जाता है?

- Ans
- 1. मिल्खा सिंह
 - 2. मेजर ध्यानचंद
 - 3. महेन्द्र सिंह धोनी
 - 4. रोहित शर्मा

Question Type : MCQ
Question ID : 264330133670
Option 1 ID : 264330523705
Option 2 ID : 264330523706
Option 3 ID : 264330523703
Option 4 ID : 264330523704
Status : Answered
Chosen Option : 3

Q.22 भारत में सन् _____ में "सती" प्रथा पर प्रतिबंध लगा दिया गया था।

- Ans
- 1. 1857
 - 2. 1819
 - 3. 1847
 - 4. 1829

Question Type : MCQ
Question ID : 264330138944
Option 1 ID : 264330544386
Option 2 ID : 264330544383
Option 3 ID : 264330544385
Option 4 ID : 264330544384
Status : Answered
Chosen Option : 4

Q.23 स्टैंड-अप इंडिया (Stand Up India) योजना का उद्देश्य भारत के _____ समुदाय को उद्यमिता में समर्थन करना है।

- Ans
- 1. गरीबी रेखा के नीचे जीवनयापन करने वाले
 - 2. निर्माण कर्मी
 - 3. अनुसूचित जाति
 - 4. व्यापारी

Question Type : MCQ
Question ID : 264330133648
Option 1 ID : 264330523616
Option 2 ID : 264330523617
Option 3 ID : 264330523615
Option 4 ID : 264330523618
Status : Answered
Chosen Option : 4

Q.24 सन् 1568 में चित्तौड़ पर अकबर का कब्ज़ा होने के बाद _____ ने उदयपुर की स्थापना की।

- Ans
- 1. राणा उदय सिंह
 - 2. मान सिंह
 - 3. राजा भारमल
 - 4. सवाई जयसिंह

Question Type : MCQ
Question ID : 264330138923
Option 1 ID : 264330544300
Option 2 ID : 264330544301
Option 3 ID : 264330544302
Option 4 ID : 264330544299
Status : Answered
Chosen Option : 1

Q.25 राज्यसभा का सदस्य बनने के लिए एक भारतीय नागरिक की न्यूनतम आयु कितनी होनी चाहिए?

- Ans
- 1. 25 वर्ष
 - 2. 30 वर्ष
 - 3. 35 वर्ष
 - 4. 20 वर्ष

Question Type : MCQ
Question ID : 264330133669
Option 1 ID : 264330523700
Option 2 ID : 264330523701
Option 3 ID : 264330523702
Option 4 ID : 264330523699
Status : Answered
Chosen Option : 2

Section : English Language and Comprehension

Q.1 Identify the segment that contains a grammatical error. If there is no error, select 'No error'
We talked about writing a will, but it / was one of the best thing you never get / around to doing.

- Ans
- 1. around to doing.
 - 2. We talked about writing a will, but it
 - 3. was one of the best thing you never get
 - 4. No Error

Question Type : MCQ
Question ID : 264330135768
Option 1 ID : 264330531953
Option 2 ID : 264330531951
Option 3 ID : 264330531952
Option 4 ID : 264330531954
Status : Answered
Chosen Option : 3

Q.2 A sentence has been given with a blank to be filled with an appropriate option. Choose the correct alternative.

Ram is _____ like the kings before him.

- Ans
- 1. nor
 - 2. no
 - 3. not
 - 4. none

Question Type : **MCQ**

Question ID : **264330134300**

Option 1 ID : **264330526197**

Option 2 ID : **264330526198**

Option 3 ID : **264330526195**

Option 4 ID : **264330526196**

Status : **Answered**

Chosen Option : **3**

Q.3 Choose the sentence with no spelling error.

- Ans
- 1. A few examples can illustrate this.
 - 2. A few examples can ilustrate this.
 - 3. A few exemples can illustrate this.
 - 4. A few examples can illustrate this.

Question Type : **MCQ**

Question ID : **264330136896**

Option 1 ID : **264330536268**

Option 2 ID : **264330536269**

Option 3 ID : **264330536267**

Option 4 ID : **264330536270**

Status : **Answered**

Chosen Option : **1**

Q.4 Improve the underlined part of the sentence. Choose 'No improvement' as an answer if the sentence is grammatically correct.

When my calculations are wrong, I have to pore over the spreadsheet to find the error.

- Ans
- 1. No improvement
 - 2. to pore by
 - 3. to poring over
 - 4. to pored over

Question Type : **MCQ**

Question ID : **264330134299**

Option 1 ID : **264330526194**

Option 2 ID : **264330526193**

Option 3 ID : **264330526191**

Option 4 ID : **264330526192**

Status : **Answered**

Chosen Option : **1**

Q.5 Choose the word that is opposite in meaning to the given word.

Abstract

- Ans
- 1. Transcend
 - 2. Romantic
 - 3. Concrete
 - 4. Utopian

Question Type : MCQ
Question ID : 264330136891
Option 1 ID : 264330536247
Option 2 ID : 264330536248
Option 3 ID : 264330536249
Option 4 ID : 264330536250
Status : Answered
Chosen Option : 3

Q.6 Select the appropriate antonym for the underlined word.
The pillar of light has faded.

- Ans
- 1. grown
 - 2. vanished
 - 3. melted
 - 4. painted

Question Type : MCQ
Question ID : 264330134313
Option 1 ID : 264330526243
Option 2 ID : 264330526244
Option 3 ID : 264330526246
Option 4 ID : 264330526245
Status : Answered
Chosen Option : 1

Q.7 Select the most appropriate meaning of the given idiom.

Walk on air

- Ans
- 1. To work hard
 - 2. To be extremely happy
 - 3. To describe an unusual situation
 - 4. Feeling weakened or tired

Question Type : MCQ
Question ID : 264330136259
Option 1 ID : 264330533820
Option 2 ID : 264330533822
Option 3 ID : 264330533821
Option 4 ID : 264330533819
Status : Answered
Chosen Option : 2

Q.8 Choose the word that can substitute the given group of words.
A person who easily believes without demanding proof

- Ans 1. Cosmopolitan
 2. Wary
 3. Credulous
 4. Streetwise

Question Type : **MCQ**
Question ID : **264330134309**
Option 1 ID : **264330526228**
Option 2 ID : **264330526229**
Option 3 ID : **264330526227**
Option 4 ID : **264330526230**
Status : **Answered**
Chosen Option : **3**

Q.9 Select the most appropriate option to fill in the blank.

A national holiday _____ on the same day as my birthday.

- Ans 1. flows
 2. falls
 3. fouls
 4. false

Question Type : **MCQ**
Question ID : **264330136897**
Option 1 ID : **264330536272**
Option 2 ID : **264330536271**
Option 3 ID : **264330536274**
Option 4 ID : **264330536273**
Status : **Answered**
Chosen Option : **2**

Q.10 Improve the underlined part of the sentence. Choose 'No improvement' as an answer if the sentence is grammatically correct.

The sun was shining through the window.

- Ans 1. were shined
 2. was shines
 3. No improvement
 4. were shining

Question Type : **MCQ**
Question ID : **264330134297**
Option 1 ID : **264330526184**
Option 2 ID : **264330526185**
Option 3 ID : **264330526186**
Option 4 ID : **264330526183**
Status : **Answered**
Chosen Option : **3**

Q.11 Identify the segment that contains a grammatical error. If there is no error, select 'No error'
If Tom was here, / he could have / solved the issue.

- Ans**
- 1. If Tom was here,
 - 2. solved the issue.
 - 3. No Error
 - 4. he could have

Question Type : **MCQ**
Question ID : **264330135767**
Option 1 ID : **264330531947**
Option 2 ID : **264330531949**
Option 3 ID : **264330531950**
Option 4 ID : **264330531948**
Status : **Answered**
Chosen Option : **1**

Q.12 Choose the word that means the same as the given word.

Jaded

- Ans**
- 1. Unwearied
 - 2. Fatigued
 - 3. Weariless
 - 4. Beguiled

Question Type : **MCQ**
Question ID : **264330141164**
Option 1 ID : **264330553001**
Option 2 ID : **264330553002**
Option 3 ID : **264330552999**
Option 4 ID : **264330553000**
Status : **Answered**
Chosen Option : **2**

Q.13 Select the appropriate synonym for the underlined word.
Are you kidding?

- Ans**
- 1. pleading
 - 2. joking
 - 3. mixing
 - 4. rocking

Question Type : **MCQ**
Question ID : **264330134310**
Option 1 ID : **264330526232**
Option 2 ID : **264330526234**
Option 3 ID : **264330526231**
Option 4 ID : **264330526233**
Status : **Answered**
Chosen Option : **2**

Q.14 In the following question, out of the given four alternatives, select the alternative which best expresses the meaning of the Idiom/Phrase.
Wet behind the ears

- Ans
- 1. To place a bad bet
 - 2. A sudden change in fortune due to a windfall
 - 3. To win a bet
 - 4. To be young and without experience

Question Type : **MCQ**
Question ID : **264330134315**
Option 1 ID : **264330526252**
Option 2 ID : **264330526254**
Option 3 ID : **264330526253**
Option 4 ID : **264330526251**
Status : **Answered**
Chosen Option : **4**

Q.15 Select the most appropriate option to substitute the bracketed segment in the given sentence. If there is no need to substitute it, select 'no substitution required'.
(Democrats control neither Congress and neither the White House, but) they are doing their best to control the judicial processes.

- Ans
- 1.
Democrats control neither Congress or the White House, but
 - 2.
Democrats control neither Congress nor the White House, but
 - 3. No substitution required
 - 4.
Democrat controls neither Congress and nor the White House, though

Question Type : **MCQ**
Question ID : **264330135771**
Option 1 ID : **264330531963**
Option 2 ID : **264330531964**
Option 3 ID : **264330531966**
Option 4 ID : **264330531965**
Status : **Answered**
Chosen Option : **4**

Q.16 Select the most appropriate word for the given group of words.

Fear of heights

- Ans
- 1. Vaccinophobia
 - 2. Acrophobia
 - 3. Hydrophobia
 - 4. Bathophobia

Question Type : **MCQ**
Question ID : **264330136253**
Option 1 ID : **264330533798**
Option 2 ID : **264330533797**
Option 3 ID : **264330533796**
Option 4 ID : **264330533795**
Status : **Answered**
Chosen Option : **2**

Q.17 Fill in the blank with the most appropriate option.

That remark _____ a stir.

- Ans
- 1. produced
 - 2. constructed
 - 3. created
 - 4. built

Question Type : MCQ
Question ID : 264330141198
Option 1 ID : 264330553130
Option 2 ID : 264330553128
Option 3 ID : 264330553127
Option 4 ID : 264330553129
Status : Answered
Chosen Option : 3

Q.18 Find the part of the given sentence that has an error in it. If there is no error, choose 'No error'.

Shivam is more cleverer than any other boy in the office.

- Ans
- 1. than any other boy
 - 2. No error
 - 3. Shivam is more cleverer
 - 4. in the office.

Question Type : MCQ
Question ID : 264330134296
Option 1 ID : 264330526180
Option 2 ID : 264330526182
Option 3 ID : 264330526179
Option 4 ID : 264330526181
Status : Answered
Chosen Option : 3

Q.19 Select the most appropriate option to fill in the blank.

To _____ your self-worth, write down some things that are positive about yourself.

- Ans
- 1. repudiate
 - 2. affirm
 - 3. overlook
 - 4. sanctify

Question Type : MCQ
Question ID : 264330134319
Option 1 ID : 264330526267
Option 2 ID : 264330526269
Option 3 ID : 264330526270
Option 4 ID : 264330526268
Status : Answered
Chosen Option : 1

Q.20 Choose the incorrectly spelt word.

- Ans 1. Blast
 2. Jutsice
 3. Caste
 4. Toast

Question Type : **MCQ**

Question ID : **264330134316**

Option 1 ID : **264330526258**

Option 2 ID : **264330526256**

Option 3 ID : **264330526255**

Option 4 ID : **264330526257**

Status : **Answered**

Chosen Option : **2**

Comprehension:

In the following passage some of the words have been deleted. Read the passage carefully and select the correct answer for the given blank out of the four alternatives.

One afternoon, a dozen Arizona State University students (1) _____ to spend the morning cutting cardboard, taping fans and assembling filters in an effort to (2) _____ 125 portable air purifiers for local schools. That (3) _____ morning, staff members at a homeless shelter in Los Angeles were setting (4) _____ 20 homemade purifiers of their own, while in Brookline, Massachusetts, another DIY air purifier was whirring quietly in the back of a day care (5) _____ as children played.

SubQuestion No : 21

Q.21 Select the most appropriate option to fill in the blank No. 1.

- Ans 1. dismissed
 2. plated
 3. gathered
 4. triggered

Question Type : **MCQ**

Question ID : **264330136882**

Option 1 ID : **264330536212**

Option 2 ID : **264330536213**

Option 3 ID : **264330536211**

Option 4 ID : **264330536214**

Status : **Answered**

Chosen Option : **3**

Comprehension:

In the following passage some of the words have been deleted. Read the passage carefully and select the correct answer for the given blank out of the four alternatives.

One afternoon, a dozen Arizona State University students (1) _____ to spend the morning cutting cardboard, taping fans and assembling filters in an effort to (2) _____ 125 portable air purifiers for local schools. That (3) _____ morning, staff members at a homeless shelter in Los Angeles were setting (4) _____ 20 homemade purifiers of their own, while in Brookline, Massachusetts, another DIY air purifier was whirring quietly in the back of a day care (5) _____ as children played.

SubQuestion No : 22

Q.22 Select the most appropriate option to fill in the blank No. 2.

- Ans
- 1. sieve
 - 2. build
 - 3. beat
 - 4. weld

Question Type : MCQ

Question ID : 264330136883

Option 1 ID : 264330536215

Option 2 ID : 264330536217

Option 3 ID : 264330536218

Option 4 ID : 264330536216

Status : Answered

Chosen Option : 2

Comprehension:

In the following passage some of the words have been deleted. Read the passage carefully and select the correct answer for the given blank out of the four alternatives.

One afternoon, a dozen Arizona State University students (1) _____ to spend the morning cutting cardboard, taping fans and assembling filters in an effort to (2) _____ 125 portable air purifiers for local schools. That (3) _____ morning, staff members at a homeless shelter in Los Angeles were setting (4) _____ 20 homemade purifiers of their own, while in Brookline, Massachusetts, another DIY air purifier was whirring quietly in the back of a day care (5) _____ as children played.

SubQuestion No : 23

Q.23 Select the most appropriate option to fill in the blank No. 3.

- Ans
- 1. cruel
 - 2. resembling
 - 3. same
 - 4. copy

Question Type : MCQ

Question ID : 264330136884

Option 1 ID : 264330536219

Option 2 ID : 264330536220

Option 3 ID : 264330536222

Option 4 ID : 264330536221

Status : Answered

Chosen Option : 3

Comprehension:

In the following passage some of the words have been deleted. Read the passage carefully and select the correct answer for the given blank out of the four alternatives.

One afternoon, a dozen Arizona State University students (1) _____ to spend the morning cutting cardboard, taping fans and assembling filters in an effort to (2) _____ 125 portable air purifiers for local schools. That (3) _____ morning, staff members at a homeless shelter in Los Angeles were setting (4) _____ 20 homemade purifiers of their own, while in Brookline, Massachusetts, another DIY air purifier was whirring quietly in the back of a day care (5) _____ as children played.

SubQuestion No : 24

Q.24 Select the most appropriate option to fill in the blank No. 4.

- Ans
- 1. off
 - 2. on
 - 3. in
 - 4. up

Question Type : **MCQ**

Question ID : **264330136885**

Option 1 ID : **264330536224**

Option 2 ID : **264330536223**

Option 3 ID : **264330536225**

Option 4 ID : **264330536226**

Status : **Answered**

Chosen Option : **2**

Comprehension:

In the following passage some of the words have been deleted. Read the passage carefully and select the correct answer for the given blank out of the four alternatives.

One afternoon, a dozen Arizona State University students (1) _____ to spend the morning cutting cardboard, taping fans and assembling filters in an effort to (2) _____ 125 portable air purifiers for local schools. That (3) _____ morning, staff members at a homeless shelter in Los Angeles were setting (4) _____ 20 homemade purifiers of their own, while in Brookline, Massachusetts, another DIY air purifier was whirring quietly in the back of a day care (5) _____ as children played.

SubQuestion No : 25

Q.25 Select the most appropriate option to fill in the blank No. 5.

- Ans
- 1. podium
 - 2. hangar
 - 3. classroom
 - 4. auditorium

Question Type : **MCQ**

Question ID : **264330136886**

Option 1 ID : **264330536228**

Option 2 ID : **264330536227**

Option 3 ID : **264330536229**

Option 4 ID : **264330536230**

Status : **Answered**

Chosen Option : **3**

Multi Tasking Non Technical Staff and Havaladar CBIC and CBN Examination 2022

Roll Number	KD Job Updates
Candidate Name	KD Job Updates
Venue Name	iON Digital Zone iDZ Laxman Nagar
Exam Date	08/05/2023
Exam Time	3:30 PM - 5:00 PM
Subject	MTS Non Tech Havaladar CBIC and CBN Examination 2022

Section : Numerical and Mathematical Ability

Q.1 48, 84 का कितना प्रतिशत है?

- Ans
1. $\frac{100}{11}$ %
2. $\frac{51}{7}$ %
3. $\frac{103}{17}$ %
4. $\frac{400}{7}$ %

Question Type : MCQ

Question ID : 264330133820

Option 1 ID : 264330524304

Option 2 ID : 264330524306

Option 3 ID : 264330524305

Option 4 ID : 264330524303

Status : Answered

Chosen Option : 4

Q.2 अंकुर और अंकिल के वेतन का अनुपात 3:2 है। यदि प्रत्येक के वेतन में Rs. 2500 की कमी कर दी जाए, तो नया अनुपात 8:5 हो जाता है। उनके वेतन का योग क्या है?

- Ans
1. Rs. 7500
2. Rs. 28500
3. Rs. 12500
4. Rs. 37500

Question Type : MCQ

Question ID : 264330133825

Option 1 ID : 264330524324

Option 2 ID : 264330524325

Option 3 ID : 264330524326

Option 4 ID : 264330524323

Status : Answered

Chosen Option : 4

Q.3 3.6, 4.2 और 5.4 का चतुर्थ समानुपाती है:

- Ans
- 1. 1.2
 - 2. 7.2
 - 3. 6.3
 - 4. 1.4

Question Type : MCQ

Question ID : 264330133824

Option 1 ID : 264330524320

Option 2 ID : 264330524322

Option 3 ID : 264330524321

Option 4 ID : 264330524319

Status : Answered

Chosen Option : 3

Q.4 पाँच क्रमागत विषम संख्याओं का औसत 37 है। सबसे बड़ी और सबसे छोटी संख्या का योग क्या है?

- Ans
- 1. 41
 - 2. 8
 - 3. 66
 - 4. 74

Question Type : MCQ

Question ID : 264330133818

Option 1 ID : 264330524297

Option 2 ID : 264330524298

Option 3 ID : 264330524296

Option 4 ID : 264330524295

Status : Answered

Chosen Option : 4

Q.5 दी गई तालिका में 7 अलग-अलग शहरों में लड़कों द्वारा की गई नौकरियों की संख्या को दर्शाया गया है। इनमें से किस शहर में लड़कों द्वारा की गई नौकरियों की संख्या सबसे कम है?

Cities	Jobs
Delhi	230
Mumbai	420
Raipur	340
Kolkata	245
Pune	654
Bhopal	234
Kanpur	321

Cities - शहर, Jobs - नौकरियाँ, Delhi - दिल्ली, Mumbai - मुंबई, Raipur - रायपुर,
Kolkata - कोलकाता, Pune - पुणे, Bhopal - भोपाल, Kanpur - कानपुर

- Ans
- 1. रायपुर
 - 2. पुणे
 - 3. दिल्ली
 - 4. मुंबई

Question Type : MCQ

Question ID : 264330135103

Option 1 ID : 264330529350

Option 2 ID : 264330529349

Option 3 ID : 264330529347

Option 4 ID : 264330529348

Status : Answered

Chosen Option : 3

Q.6 जब एक व्यक्ति द्वारा एक लैपटॉप को Rs.55,000 में बेचा जाता है, तो वह 25% लाभ अर्जित करता है। लैपटॉप का क्रय मूल्य ज्ञात कीजिए।

- Ans
- 1. Rs.44,000
 - 2. Rs.33,000
 - 3. Rs.45,000
 - 4. Rs.30,000

Question Type : MCQ

Question ID : 264330135419

Option 1 ID : 264330530584

Option 2 ID : 264330530585

Option 3 ID : 264330530586

Option 4 ID : 264330530583

Status : Answered

Chosen Option : 1

Q.7 हल कीजिए : $\left\{\left(\frac{42}{7}\right) \times 6\right\} \{45 \times 6 + 65\} \left[\frac{63}{7}\right] - 76$

- Ans
- ✓ 1. 108464
 - ✗ 2. 10987
 - ✗ 3. 10998
 - ✗ 4. 10876

Question Type : MCQ
Question ID : 264330135087
Option 1 ID : 264330529283
Option 2 ID : 264330529284
Option 3 ID : 264330529286
Option 4 ID : 264330529285
Status : Answered
Chosen Option : 1

Q.8 एक आदमी अकेले एक घर को 9 दिनों में पेंट कर सकता है और एक महिला अकेले उस घर को 18 दिनों में पेंट कर सकती है। यदि 3 आदमी और 3 महिलाएँ मिलकर काम करते हैं, तो वे घर को कितने दिनों में पेंट करेंगे?

- Ans
- ✗ 1. 6 दिन
 - ✓ 2. 2 दिन
 - ✗ 3. 4 दिन
 - ✗ 4. 3 दिन

Question Type : MCQ
Question ID : 264330138104
Option 1 ID : 264330541026
Option 2 ID : 264330541025
Option 3 ID : 264330541023
Option 4 ID : 264330541024
Status : Answered
Chosen Option : 2

Q.9 एक आदमी एक निश्चित दूरी का आधा भाग 25 km/hr की चाल से तय करता है। वह शेष दूरी का 40 प्रतिशत 8 km/hr की चाल से तय करता है और शेष दूरी 18 km/hr की चाल से तय करता है। पूरी यात्रा में उसकी औसत चाल क्या है?

- Ans
- ✗ 1. (650/37) km/hr
 - ✗ 2. (540/37) km/hr
 - ✓ 3. (600/37) km/hr
 - ✗ 4. (480/37) km/hr

Question Type : MCQ
Question ID : 264330137607
Option 1 ID : 264330539038
Option 2 ID : 264330539037
Option 3 ID : 264330539035
Option 4 ID : 264330539036
Status : Answered
Chosen Option : 3

Q.10 A_1 , A_2 और A_3 अकेले किसी कार्य को क्रमशः 12 घंटे, 24 घंटे और 16 घंटे में पूरा कर सकते हैं। एक साथ कार्य करके, वे इसी कार्य को कितने समय में पूरा करेंगे?

- Ans
- 1. 5 घंटे 30 मिनट
 - 2. 3 घंटे 30 मिनट
 - 3. 4 घंटे 20 मिनट
 - 4. 5 घंटे 20 मिनट

Question Type : MCQ

Question ID : 264330134094

Option 1 ID : 264330525401

Option 2 ID : 264330525400

Option 3 ID : 264330525402

Option 4 ID : 264330525399

Status : Answered

Chosen Option : 1

Q.11 एक शंक्वाकार तंबू के आधार की त्रिज्या 8 m और इसकी ऊँचाई 15 m है। यदि तंबू बनाने की लागत Rs.54 प्रति π m^2 है, तो इसे बनाने के लिए आवश्यक सामग्री की लागत कितनी होगी?

- Ans
- 1. Rs.7344
 - 2. Rs.7454
 - 3. Rs.8678
 - 4. Rs.6454

Question Type : MCQ

Question ID : 264330138108

Option 1 ID : 264330541041

Option 2 ID : 264330541039

Option 3 ID : 264330541040

Option 4 ID : 264330541042

Status : Answered

Chosen Option : 2

Q.12 8% का बढ़ा मिलने पर, रश्मि ने Rs. 7912 में एक साइकिल खरीदी। साइकिल का वास्तविक मूल्य क्या था?

- Ans
- 1. Rs. 8600
 - 2. Rs. 7800
 - 3. Rs. 8800
 - 4. Rs. 9200

Question Type : MCQ

Question ID : 264330133823

Option 1 ID : 264330524316

Option 2 ID : 264330524315

Option 3 ID : 264330524317

Option 4 ID : 264330524318

Status : Answered

Chosen Option : 1

Q.13 एक लड़का एक रुपये में 6 टॉफी खरीदता है। 20% का लाभ अर्जित करने के लिए उसे एक रुपये में कितनी टॉफी बेचनी चाहिए?

- Ans 1. 5
 2. 7
 3. 4
 4. 3

Question Type : MCQ

Question ID : 264330133822

Option 1 ID : 264330524311

Option 2 ID : 264330524314

Option 3 ID : 264330524312

Option 4 ID : 264330524313

Status : Answered

Chosen Option : 1

Q.14 एक मोबाइल फोन Rs. 25000 में खरीदा गया। उस मोबाइल फोन के उपयोग के कारण उसके मूल्य में प्रति वर्ष 5% की गिरावट आती है। 2 वर्ष पश्चात मोबाइल फोन का मूल्य होगा:

- Ans 1. Rs. 24800.50
 2. Rs. 21546.50
 3. Rs. 22562.50
 4. Rs. 23842.50

Question Type : MCQ

Question ID : 264330133827

Option 1 ID : 264330524333

Option 2 ID : 264330524334

Option 3 ID : 264330524331

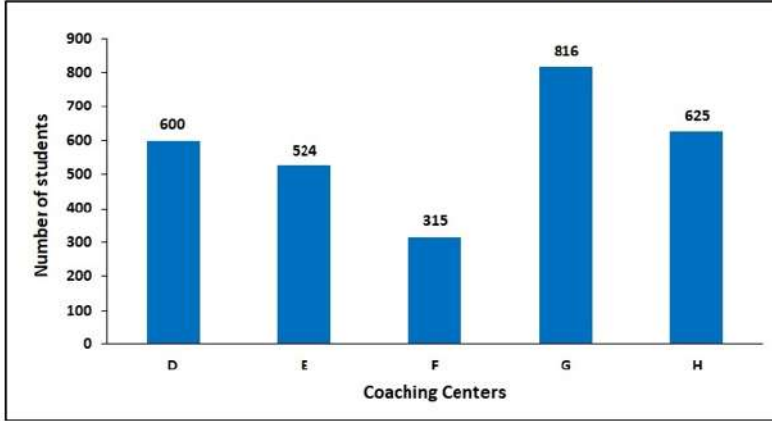
Option 4 ID : 264330524332

Status : Answered

Chosen Option : 3

Q.15 निम्नलिखित दंड आलेख में पाँच अलग-अलग कोचिंग संस्थानों में छात्रों की संख्या को दर्शाया गया है।

कितने कोचिंग संस्थानों में छात्रों की संख्या, इन संस्थानों के छात्रों की औसत संख्या से अधिक है?



Number of students = छात्रों की संख्या, Coaching Centres = कोचिंग संस्थान

- Ans
- 1. 2
 - 2. 3
 - 3. 4
 - 4. 1

Question Type : MCQ

Question ID : 264330133832

Option 1 ID : 264330524353

Option 2 ID : 264330524354

Option 3 ID : 264330524352

Option 4 ID : 264330524351

Status : Answered

Chosen Option : 2

Q.16 Rs. 20000 की धनराशि 1 वर्ष के लिए 16 प्रतिशत वार्षिक दर से चक्रवृद्धि ब्याज पर ऋण पर दी गई। यदि ब्याज का संयोजन अर्धवार्षिक रूप से किया जाए, तो कितना ब्याज प्राप्त होगा?

- Ans
- 1. Rs. 3180
 - 2. Rs. 3328
 - 3. Rs. 3224
 - 4. Rs. 3396

Question Type : MCQ

Question ID : 264330137142

Option 1 ID : 264330537214

Option 2 ID : 264330537213

Option 3 ID : 264330537212

Option 4 ID : 264330537211

Status : Answered

Chosen Option : 2

Q.17 $100 \div (10 + 12 - 2 \times 6)$ का मान है:

- Ans
- 1. 100
 - 2. 10
 - 3. 88
 - 4. 12

Question Type : MCQ
Question ID : 264330133816
Option 1 ID : 264330524287
Option 2 ID : 264330524290
Option 3 ID : 264330524288
Option 4 ID : 264330524289
Status : Answered
Chosen Option : 2

Q.18 $\frac{192}{64} \times \left(\frac{47}{94} + \frac{42}{84}\right) + \frac{182}{14}$ का मान क्या है?

- Ans
- 1. 14
 - 2. 16
 - 3. 8
 - 4. 23

Question Type : MCQ
Question ID : 264330138031
Option 1 ID : 264330540734
Option 2 ID : 264330540732
Option 3 ID : 264330540731
Option 4 ID : 264330540733
Status : Answered
Chosen Option : 1

Q.19 एक ट्रक एक निश्चित चाल से 540 km की दूरी 9 घंटे में तय करता है। यदि एक कार की औसत चाल इस ट्रक की चाल से 16 km/hr अधिक है, तो ट्रक द्वारा तय की गई दूरी से 68 km अधिक दूरी तय करने में कार को कितना समय लगेगा?

- Ans
- 1. 6 घंटे
 - 2. 12 घंटे
 - 3. 10 घंटे
 - 4. 8 घंटे

Question Type : MCQ
Question ID : 264330133828
Option 1 ID : 264330524335
Option 2 ID : 264330524338
Option 3 ID : 264330524337
Option 4 ID : 264330524336
Status : Answered
Chosen Option : 4

Q.20 एक त्रिभुज का आधार 120 cm और संगत ऊँचाई 35 cm है। उस त्रिभुज का क्षेत्रफल क्या है?

- Ans
- 1. 2010 cm^2
 - 2. 2120 cm^2
 - 3. 2630 cm^2
 - 4. 2100 cm^2

Question Type : MCQ

Question ID : 264330134099

Option 1 ID : 264330525419

Option 2 ID : 264330525421

Option 3 ID : 264330525422

Option 4 ID : 264330525420

Status : Answered

Chosen Option : 4

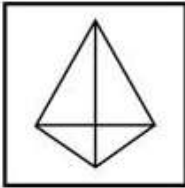
Section : Reasoning Ability and Problem Solving

Q.1 उस विकल्प आकृति को चुनिए जिसमें नीचे दी गई आकृति इसके भाग के रूप में निहित है। (घूर्णन की अनुमति नहीं है)।

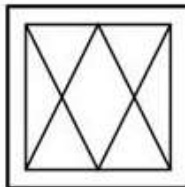


Ans

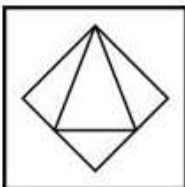
1.



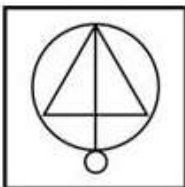
2.



3.



4.



Question Type : MCQ

Question ID : 264330134995

Option 1 ID : 264330528917

Option 2 ID : 264330528915

Option 3 ID : 264330528916

Option 4 ID : 264330528918

Status : Answered

Chosen Option : 2

Q.2 छः सहकर्मी X, Y, Z, A, B और C एक पंक्ति में दक्षिण की ओर मुख करके बैठे हैं। Z, C के ठीक दाहिनी ओर बैठा है जो एक कोने पर बैठा है। A, B के दाहिनी ओर तीसरे स्थान पर बैठा है। X, B के निकट नहीं बैठा है। A के ठीक बाईं ओर कौन बैठा है?

- Ans
- 1. Y
 - 2. Z
 - 3. X
 - 4. C

Question Type : MCQ
Question ID : 264330133532
Option 1 ID : 264330523159
Option 2 ID : 264330523161
Option 3 ID : 264330523160
Option 4 ID : 264330523162
Status : Answered
Chosen Option : 4

Q.3 किसी एक खास कूट भाषा में, 'WATCH' को '5B2D8' लिखा जाता है। उस भाषा में 'HEAR' को कैसे लिखा जाएगा?

- Ans
- 1. 8F2S
 - 2. F8S1
 - 3. 1SF8
 - 4. 8F1S

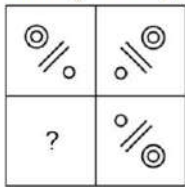
Question Type : MCQ
Question ID : 264330133450
Option 1 ID : 264330522832
Option 2 ID : 264330522833
Option 3 ID : 264330522834
Option 4 ID : 264330522831
Status : Answered
Chosen Option : 4

Q.4 एक निश्चित कूट भाषा में, 'SEARCH' को 'ACEHRS' लिखा जाता है। उस भाषा में 'IMPORT' को कैसे लिखा जाएगा?

- Ans
- 1. IMOPRT
 - 2. EXPORT
 - 3. IMOPTR
 - 4. IMPORT

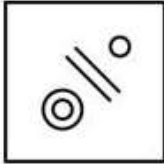
Question Type : MCQ
Question ID : 264330137563
Option 1 ID : 264330538861
Option 2 ID : 264330538859
Option 3 ID : 264330538862
Option 4 ID : 264330538860
Status : Answered
Chosen Option : 1

Q.5 उस विकल्प आकृति को चुनिए जो पैटर्न को पूरा करने के लिए नीचे दी गई आकृति में प्रश्न चिन्ह (?) के स्थान पर आएगी। (घूर्णन की अनुमति नहीं है)



Ans

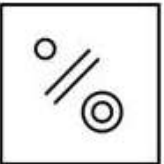
✓ 1.



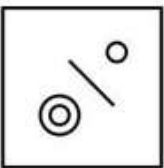
✗ 2.



✗ 3.



✗ 4.



Question Type : **MCQ**

Question ID : **264330133545**

Option 1 ID : **264330523212**

Option 2 ID : **264330523214**

Option 3 ID : **264330523211**

Option 4 ID : **264330523213**

Status : **Answered**

Chosen Option : **1**

Q.6 दिए गए समीकरण को सही करने के लिए किन दो संख्याओं को आपस में बदला जाना चाहिए?

$$7 \times 3 - 98 \div 14 + 5 = 31$$

Ans

✗ 1. 7 और 98

✗ 2. 31 और 7

✓ 3. 5 और 3

✗ 4. 3 और 14

Question Type : **MCQ**

Question ID : **264330133541**

Option 1 ID : **264330523196**

Option 2 ID : **264330523195**

Option 3 ID : **264330523198**

Option 4 ID : **264330523197**

Status : **Answered**

Chosen Option : **3**

Q.7 दो कथन दिए गए हैं और दो निष्कर्ष I और II दिए गए हैं। कथनों को सत्य मानते हुए, चाहे वे सामान्यतः ज्ञात तथ्यों से अलग प्रतीत होते हों, निश्चय कीजिए कि कौन-सा निष्कर्ष तार्किक रूप से कथनों के अनुसार है।

कथन:

कुछ गाने, छोटे हैं।

कुछ छोटे, अच्छे हैं।

निष्कर्ष:

I. कुछ गाने, अच्छे हैं।

II. कुछ छोटों का अच्छा नहीं होना एक संभावना है।

Ans

- ✓ 1. केवल निष्कर्ष II कथनों के अनुसार है।
- ✗ 2. दोनों निष्कर्ष I और II कथनों के अनुसार हैं।
- ✗ 3. केवल निष्कर्ष I कथनों के अनुसार है।
- ✗ 4. न तो निष्कर्ष I और न ही II कथनों के अनुसार है।

Question Type : MCQ

Question ID : 264330133535

Option 1 ID : 264330523172

Option 2 ID : 264330523173

Option 3 ID : 264330523171

Option 4 ID : 264330523174

Status : Answered

Chosen Option : 1

Q.8 एक कॉलेज के आठ प्रोफेसर अर्थात् X, Y, Z, A, B, C, D और E एक वर्गाकार मेज के चारों ओर इस प्रकार बैठे हैं कि उनमें से चार मेज के चारों कोनों पर बैठे हैं जबकि अन्य चार मेज की प्रत्येक भुजा के मध्य में एक दूसरे की ओर मुख करके बैठे हैं। C, A के ठीक दाहिनी ओर बैठा है, जो Z की ओर उन्मुख है। E, X के सम्मुख बैठा है, जो Y के ठीक दाहिनी ओर बैठा है। B, Y के ठीक बाईं ओर बैठा है और C के सम्मुख है। निम्नलिखित में से कौन Y की ओर उन्मुख है?

Ans

- ✗ 1. Z
- ✓ 2. D
- ✗ 3. A
- ✗ 4. C

Question Type : MCQ

Question ID : 264330133533

Option 1 ID : 264330523163

Option 2 ID : 264330523164

Option 3 ID : 264330523166

Option 4 ID : 264330523165

Status : Answered

Chosen Option : 3

Q.9 दी गई श्रृंखला में निम्नलिखित में से कौन-सी संख्या प्रश्न चिन्ह (?) के स्थान पर आएगी?
5, 10, 30, 60, 180, 360, 1080, ?

- Ans 1. 2400
 2. 3240
 3. 2160
 4. 2610

Question Type : **MCQ**

Question ID : **264330133538**

Option 1 ID : **264330523184**

Option 2 ID : **264330523185**

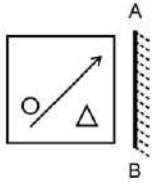
Option 3 ID : **264330523183**

Option 4 ID : **264330523186**

Status : **Answered**

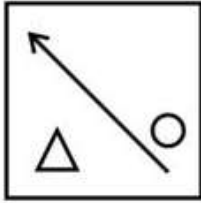
Chosen Option : **3**

Q.10 दी गई आकृति के उस सही दर्पण प्रतिबिंब को चुनिए, जो नीचे दर्शाए गए अनुसार दर्पण को AB पर रखने पर बनेगा।



Ans

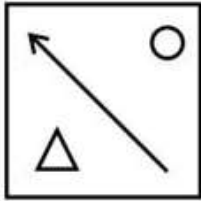
✓ 1.



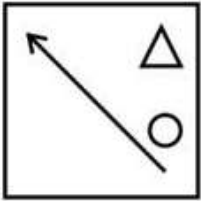
✗ 2.



✗ 3.



✗ 4.



Question Type : MCQ

Question ID : 264330134996

Option 1 ID : 264330528922

Option 2 ID : 264330528919

Option 3 ID : 264330528921

Option 4 ID : 264330528920

Status : Answered

Chosen Option : 1

Q.11 दी गई दो संख्याओं को आपस में बदलने पर, निम्नलिखित में से कौन-सा समीकरण सही होगा?

7 और 8

I. $5 \times 7 + 6 \div 2 - 8 = 36$

II. $8 + 3 \times 7 - 5 \div 1 = 26$

Ans 1. I और II दोनों

2. केवल I

3. केवल II

4. न तो I और न ही II

Question Type : MCQ

Question ID : 264330137104

Option 1 ID : 264330537061

Option 2 ID : 264330537059

Option 3 ID : 264330537060

Option 4 ID : 264330537062

Status : Answered

Chosen Option : 1

Q.12 दिए गए पैटर्न का ध्यानपूर्वक अध्ययन कीजिए और उस संख्या को चुनिए जो इसमें प्रश्न चिन्ह (?) के स्थान पर आ सकती है।

पहली पंक्ति- 26, 35, 44

दूसरी पंक्ति- 47, 56, 65

तीसरी पंक्ति- 15, 24, ?

Ans 1. 22

2. 35

3. 19

4. 33

Question Type : MCQ

Question ID : 264330133540

Option 1 ID : 264330523192

Option 2 ID : 264330523191

Option 3 ID : 264330523193

Option 4 ID : 264330523194

Status : Answered

Chosen Option : 4

Q.13 एक निश्चित कूट भाषा में, 'PLANET' को 'RCLYJN' लिखा जाता है। उस कूट भाषा में 'MODELS' को कैसे लिखा जाएगा?

Ans 1. QJCBMK

2. QJCBML

3. QJCBNK

4. QJCCCM

Question Type : MCQ

Question ID : 264330135621

Option 1 ID : 264330531383

Option 2 ID : 264330531384

Option 3 ID : 264330531385

Option 4 ID : 264330531386

Status : Answered

Chosen Option : 1

Q.14 उस विकल्प को चुनिए जो तीसरे शब्द से ठीक उसी प्रकार संबंधित है जिस प्रकार दूसरा शब्द पहले शब्द से संबंधित है।

तुच्छ : महत्त्वहीन :: दीर्घानुभावी : ?

Ans

1. मूर्ख
 2. हास्यजनक
 3. अनुभवी
 4. अनुभवहीन

Question Type : MCQ

Question ID : 264330133527

Option 1 ID : 264330523140

Option 2 ID : 264330523141

Option 3 ID : 264330523139

Option 4 ID : 264330523142

Status : Answered

Chosen Option : 3

Q.15 उस विकल्प को चुनिए जो तीसरे अक्षर-समूह से ठीक उसी प्रकार संबंधित है जिस प्रकार दूसरा-अक्षर समूह पहले अक्षर-समूह से संबंधित है।

HOME : 8N13D :: BALL : ?

Ans

1. 2Z12K
 2. 2Z21M
 3. 12MZZ
 4. 4Z14

Question Type : MCQ

Question ID : 264330133528

Option 1 ID : 264330523144

Option 2 ID : 264330523143

Option 3 ID : 264330523145

Option 4 ID : 264330523146

Status : Answered

Chosen Option : 1

Q.16 एक फेयरवेल पार्टी में सात सहकर्मियों P, A, R, S, T, U और V ने धनराशि का योगदान दिया। कोई भी दो सहकर्मियों ने समान धनराशि का योगदान नहीं दिया। V ने P से अधिक धनराशि का योगदान दिया जिसने A से अधिक धनराशि का योगदान दिया। R और T ने अधिकतम और न्यूनतम धनराशि का योगदान दिया परंतु जरूरी नहीं कि इसी क्रम में दिया हो। U का योगदान केवल R से कम था। S का योगदान केवल एक व्यक्ति से अधिक था। तीसरे स्थान पर सर्वाधिक योगदान किसका था?

Ans

1. T
 2. R
 3. S
 4. V

Question Type : MCQ

Question ID : 264330133534

Option 1 ID : 264330523170

Option 2 ID : 264330523167

Option 3 ID : 264330523169

Option 4 ID : 264330523168

Status : Answered

Chosen Option : 4

Q.17 उस विकल्प को चुनिए जो तीसरी संख्या से ठीक उसी प्रकार संबंधित है जिस प्रकार दूसरी संख्या पहली संख्या से संबंधित है।
83 : 161 :: 71 : ?

- Ans
- 1. 150
 - 2. 232
 - 3. 149
 - 4. 210

Question Type : MCQ
Question ID : 264330133539
Option 1 ID : 264330523187
Option 2 ID : 264330523188
Option 3 ID : 264330523190
Option 4 ID : 264330523189
Status : Answered
Chosen Option : 1

Q.18 दी गई श्रृंखला में निम्नलिखित में से कौन-सा अक्षर प्रश्न चिन्ह (?) के स्थान पर आएगा?
C, E, G, I, K, M, O, ?

- Ans
- 1. S
 - 2. T
 - 3. R
 - 4. Q

Question Type : MCQ
Question ID : 264330133526
Option 1 ID : 264330523135
Option 2 ID : 264330523138
Option 3 ID : 264330523137
Option 4 ID : 264330523136
Status : Answered
Chosen Option : 4

Q.19 तीन कथन दिए गए हैं और दो निष्कर्ष I और II दिए गए हैं। कथनों को सत्य मानते हुए, चाहे वे सामान्यतः ज्ञात तथ्यों से अलग प्रतीत होते हों, निश्चय कीजिए कि कौन-सा निष्कर्ष तार्किक रूप से कथनों के अनुसार है।
कथन:
सभी सोना, चाँदी हैं।
सभी चाँदी, पीतल हैं।
सभी पीतल, तांबा हैं।
निष्कर्ष:
I. सभी सोना, तांबा हैं।
II. सभी चाँदी, तांबा हैं।

- Ans
- 1. दोनों निष्कर्ष I और II कथनों के अनुसार हैं।
 - 2. केवल निष्कर्ष II कथनों के अनुसार है।
 - 3. न तो निष्कर्ष I और न ही II कथनों के अनुसार है।
 - 4. केवल निष्कर्ष I कथनों के अनुसार है।

Question Type : MCQ
Question ID : 264330133536
Option 1 ID : 264330523177
Option 2 ID : 264330523176
Option 3 ID : 264330523178
Option 4 ID : 264330523175
Status : Answered
Chosen Option : 1

Q.20 दी गई श्रृंखला में निम्नलिखित में से कौन-सी संख्या प्रश्न चिन्ह (?) के स्थान पर आएगी?
63, 56, 49, 42, 35, 28, ?

- Ans
- 1. 35
 - 2. 22
 - 3. 14
 - 4. 21

Question Type : MCQ
Question ID : 264330133537
Option 1 ID : 264330523180
Option 2 ID : 264330523182
Option 3 ID : 264330523179
Option 4 ID : 264330523181
Status : Answered
Chosen Option : 4

Section : General Awareness

Q.1 निम्नलिखित में से किसने 25 अक्टूबर 2022 तक पुरुष टेनिस एकल में सर्वाधिक ग्रैंड स्लैम टूर्नामेंट (Grand Slam Tournaments) जीते?

- Ans
- 1. नोवाक जोकोविच (Novak Djokovic)
 - 2. पीट सम्प्रास (Pete Sampras)
 - 3. रोजर फ़ेडरर (Roger Federer)
 - 4. राफेल नडाल (Rafael Nadal)

Question Type : MCQ
Question ID : 264330134029
Option 1 ID : 264330525142
Option 2 ID : 264330525139
Option 3 ID : 264330525140
Option 4 ID : 264330525141
Status : Answered
Chosen Option : 3

Q.2 निम्नलिखित में से किस नृत्य को एकहार्य (Ekaharya) के नाम से भी जाना जाता है, जिसमें एक नर्तक एक ही नृत्य प्रदर्शन में कई भूमिकाएँ निभाता है?

- Ans
- 1. भरतनाट्यम
 - 2. कथकली
 - 3. कथक
 - 4. कुचिपुड़ी

Question Type : MCQ
Question ID : 264330134008
Option 1 ID : 264330525055
Option 2 ID : 264330525057
Option 3 ID : 264330525056
Option 4 ID : 264330525058
Status : Answered
Chosen Option : 1

Q.3 अंतर्राष्ट्रीय क्रिकेट परिषद (ICC) महिला क्रिकेट विश्व कप 2022 की मेजबानी _____ द्वारा मार्च और अप्रैल 2022 में की गई थी।

- Ans
- 1. बांग्लादेश
 - 2. न्यूजीलैंड
 - 3. इंग्लैंड
 - 4. भारत

Question Type : MCQ
Question ID : 264330134028
Option 1 ID : 264330525135
Option 2 ID : 264330525138
Option 3 ID : 264330525137
Option 4 ID : 264330525136
Status : Answered
Chosen Option : 3

Q.4 निम्नलिखित में से कौन-सा शहर मुगलों का पहला नियोजित शहर था?

- Ans
- 1. मिर्जापुर
 - 2. लखनऊ
 - 3. लाहौर
 - 4. फतेहपुर सीकरी

Question Type : MCQ
Question ID : 264330137013
Option 1 ID : 264330536697
Option 2 ID : 264330536698
Option 3 ID : 264330536695
Option 4 ID : 264330536696
Status : Answered
Chosen Option : 4

Q.5 हिंदुस्तानी शास्त्रीय परंपरा में सबसे महान भारतीय गायकों में से एक भीमसेन जोशी _____ से थे।

- Ans
- 1. कर्नाटक
 - 2. तमिलनाडु
 - 3. केरल
 - 4. महाराष्ट्र

Question Type : MCQ
Question ID : 264330134024
Option 1 ID : 264330525121
Option 2 ID : 264330525120
Option 3 ID : 264330525119
Option 4 ID : 264330525122
Status : Not Answered
Chosen Option : --

Q.6 महात्मा गांधी ने 'अखिल भारतीय हरिजन सेवक संघ' की स्थापना कब की थी?

- Ans
- 1. 1920
 - 2. 1928
 - 3. 1932
 - 4. 1936

Question Type : MCQ
Question ID : 264330134660
Option 1 ID : 264330527596
Option 2 ID : 264330527597
Option 3 ID : 264330527598
Option 4 ID : 264330527595
Status : Not Answered
Chosen Option : --

Q.7 निम्नलिखित में से कौन सा थैलोफाइट का एक उदाहरण नहीं है?

- Ans
- 1. मारकेशिया (Marchantia)
 - 2. स्पाइरोगाइरा (Spirogyra)
 - 3. कारा (Chara)
 - 4. क्लैडोफोरा (Cladophora)

Question Type : MCQ
Question ID : 264330134012
Option 1 ID : 264330525074
Option 2 ID : 264330525073
Option 3 ID : 264330525071
Option 4 ID : 264330525072
Status : Not Answered
Chosen Option : --

Q.8 _____ खेतों में बीज बोने वाला एक त्योहार है। यह झारखंड में मनाया जाने वाला एक प्रमुख त्योहार है।

- Ans
- 1. जावा (Jawa)
 - 2. बान्दाना (Bandana)
 - 3. रोहिणी (Rohini)
 - 4. करम (Karam)

Question Type : MCQ
Question ID : 264330134647
Option 1 ID : 264330527546
Option 2 ID : 264330527543
Option 3 ID : 264330527545
Option 4 ID : 264330527544
Status : Not Answered
Chosen Option : --

Q.9 लोकसभा का _____ वर्ष का एक निश्चित कार्यकाल होता है और राष्ट्रपति द्वारा इसे किसी भी समय भंग किया जा सकता है।

- Ans
- 1. 8
 - 2. 5
 - 3. 12
 - 4. 10

Question Type : MCQ
Question ID : 264330134027
Option 1 ID : 264330525132
Option 2 ID : 264330525131
Option 3 ID : 264330525134
Option 4 ID : 264330525133
Status : Answered
Chosen Option : 2

Q.10 ब्लैकबक राष्ट्रीय पार्क (कालियार पार्क) _____ में स्थित है।

- Ans
- 1. सिक्किम
 - 2. गुजरात
 - 3. हरियाणा
 - 4. मध्य प्रदेश

Question Type : MCQ
Question ID : 264330134013
Option 1 ID : 264330525075
Option 2 ID : 264330525077
Option 3 ID : 264330525076
Option 4 ID : 264330525078
Status : Not Answered
Chosen Option : --

Q.11 निम्नलिखित में से कौन-सी पुस्तक राजा हर्षवर्धन द्वारा नहीं लिखी गई थी?

- Ans
- 1. नागानंद (Nagananda)
 - 2. प्रियदर्शिका (Priyadarsika)
 - 3. रत्नावली (Ratnavali)
 - 4. अमुक्तमाल्यद (Amuktamalayada)

Question Type : MCQ
Question ID : 264330134657
Option 1 ID : 264330527585
Option 2 ID : 264330527584
Option 3 ID : 264330527583
Option 4 ID : 264330527586
Status : Answered
Chosen Option : 1

Q.12 निम्नलिखित में से किस नदी का प्राचीन नाम विपाशा (Vipasha) है?

- Ans 1. ब्यास
 2. चिनाब
 3. सतलुज
 4. रावि

Question Type : MCQ
Question ID : 264330134016
Option 1 ID : 264330525088
Option 2 ID : 264330525089
Option 3 ID : 264330525090
Option 4 ID : 264330525087
Status : Answered
Chosen Option : 1

Q.13 भारत में 5G दूरसंचार तकनीक किस वर्ष शुरू की गई थी?

- Ans 1. 2019
 2. 2017
 3. 2014
 4. 2022

Question Type : MCQ
Question ID : 264330135493
Option 1 ID : 264330530881
Option 2 ID : 264330530880
Option 3 ID : 264330530879
Option 4 ID : 264330530882
Status : Answered
Chosen Option : 4

Q.14 2011 की जनगणना के अनुसार, भारत के निम्नलिखित में से किस केंद्र शासित प्रदेश की जनसंख्या सबसे कम है?

- Ans 1. लक्षद्वीप
 2. दमन और दीव
 3. चंडीगढ़
 4. दादरा और नगर हवेली

Question Type : MCQ
Question ID : 264330137747
Option 1 ID : 264330539598
Option 2 ID : 264330539597
Option 3 ID : 264330539595
Option 4 ID : 264330539596
Status : Not Answered
Chosen Option : --

Q.15 किस प्रसिद्ध भारतीय कथक नर्तक को 1986 में भारत के दूसरे सर्वोच्च नागरिक पुरस्कार पद्म विभूषण से सम्मानित किया गया ?

- Ans
- 1. मल्लिका साराभाई
 - 2. माधवी मुद्गल
 - 3. बिरजू महाराज
 - 4. मंजरी चतुर्वेदी

Question Type : MCQ

Question ID : 264330135503

Option 1 ID : 264330530919

Option 2 ID : 264330530920

Option 3 ID : 264330530921

Option 4 ID : 264330530922

Status : Not Answered

Chosen Option : --

Q.16 2011 की जनगणना के अनुसार निम्न में से किस राज्य की साक्षरता दर सर्वाधिक है?

- Ans
- 1. तमिलनाडु
 - 2. कर्नाटक
 - 3. केरल
 - 4. महाराष्ट्र

Question Type : MCQ

Question ID : 264330133992

Option 1 ID : 264330524994

Option 2 ID : 264330524992

Option 3 ID : 264330524993

Option 4 ID : 264330524991

Status : Answered

Chosen Option : 3

Q.17 गवर्नर जनरल लॉर्ड डलहौजी ने _____ की रियासत के बारे में कहा था कि "ये गिलास फल एक दिन हमारे ही मुँह में आकर गिरेगा (as a cherry that will drop into our mouth one day) ।"

- Ans
- 1. अहोम
 - 2. मैसूर
 - 3. मराठा
 - 4. अवध

Question Type : MCQ

Question ID : 264330137034

Option 1 ID : 264330536780

Option 2 ID : 264330536781

Option 3 ID : 264330536779

Option 4 ID : 264330536782

Status : Answered

Chosen Option : 2

Q.18 निम्नलिखित में से खिलजी वंश के संस्थापक कौन थे?

- Ans
- 1. अलाउद्दीन खिलजी
 - 2. नासिरुद्दीन खुसरो शाह
 - 3. कुतुबुद्दीन मुबारक शाह
 - 4. जलालुद्दीन फिरोज खिलजी

Question Type : MCQ
Question ID : 264330134020
Option 1 ID : 264330525105
Option 2 ID : 264330525103
Option 3 ID : 264330525104
Option 4 ID : 264330525106
Status : Answered
Chosen Option : 4

Q.19 रवींद्रनाथ टैगोर द्वारा लिखित 'गल्पगुच्छ (Galpaguchcha)' _____ का एक संग्रह है।

- Ans
- 1. अंग्रेजी शायरियों
 - 2. भक्ति गीतों
 - 3. लघु कथाओं
 - 4. कविताओं

Question Type : MCQ
Question ID : 264330135501
Option 1 ID : 264330530913
Option 2 ID : 264330530914
Option 3 ID : 264330530912
Option 4 ID : 264330530911
Status : Answered
Chosen Option : 4

Q.20 _____ प्राकृतिक रूप से पाया जाने वाला आवर्त सारणी का सबसे भारी तत्व है, जिसका परमाणु भार 238 है।

- Ans
- 1. पारा
 - 2. यूरेनियम
 - 3. हीलियम
 - 4. जीनॉन (Xenon)

Question Type : MCQ
Question ID : 264330134011
Option 1 ID : 264330525068
Option 2 ID : 264330525069
Option 3 ID : 264330525067
Option 4 ID : 264330525070
Status : Answered
Chosen Option : 2

Q.21 निम्नलिखित में से कौन-सा भारत का पहला मानव अंतरिक्ष उड़ान कार्यक्रम (Human spaceflight programme) है?

- Ans
- 1. शुक्रयान
 - 2. गगनयान
 - 3. मंगलयान
 - 4. चंद्रयान - 1

Question Type : MCQ
Question ID : 264330134014
Option 1 ID : 264330525079
Option 2 ID : 264330525082
Option 3 ID : 264330525081
Option 4 ID : 264330525080
Status : Answered
Chosen Option : 2

Q.22 दिल्ली उच्च न्यायालय की स्थापना सन् _____ में की गई थी।

- Ans
- 1. 1951
 - 2. 1947
 - 3. 1962
 - 4. 1966

Question Type : MCQ
Question ID : 264330137022
Option 1 ID : 264330536732
Option 2 ID : 264330536731
Option 3 ID : 264330536733
Option 4 ID : 264330536734
Status : Not Answered
Chosen Option : --

Q.23 अर्थशास्त्र का कौन-सा नियम कहता है कि "बुरी मुद्रा अच्छी मुद्रा को प्रचलन से निकाल बाहर करती है (Bad money drives out good money)"?

- Ans
- 1. बैक्सटर का नियम (Baxter's Law)
 - 2. गाँस का नियम (Gauss's Law)
 - 3. ओम का नियम (Ohm's Law)
 - 4. ग्रेशम का नियम (Gresham's Law)

Question Type : MCQ
Question ID : 264330135508
Option 1 ID : 264330530942
Option 2 ID : 264330530941
Option 3 ID : 264330530939
Option 4 ID : 264330530940
Status : Not Answered
Chosen Option : --

Q.24 भारतीय संविधान में राज्य के नीति निर्देशक सिद्धांतों की विशेषता _____ के संविधान से ली गई है।

- Ans
- 1. फ्रांस
 - 2. ब्रिटेन
 - 3. आयरलैंड
 - 4. कनाडा

Question Type : MCQ
Question ID : 264330134026
Option 1 ID : 264330525127
Option 2 ID : 264330525128
Option 3 ID : 264330525129
Option 4 ID : 264330525130
Status : Answered
Chosen Option : 3

Q.25 The Department of Pharmaceuticals has given 'in-principle' approval to the proposals to set up bulk drug parks in three states- Himachal Pradesh, Gujarat and _____ under the scheme of "Promotion of Bulk Drug Parks".

- Ans
- 1. Madhya Pradesh
 - 2. West Bengal
 - 3. Andhra Pradesh
 - 4. Uttar Pradesh

Question Type : MCQ
Question ID : 264330134006
Option 1 ID : 264330525048
Option 2 ID : 264330525047
Option 3 ID : 264330525049
Option 4 ID : 264330525050
Status : Not Answered
Chosen Option : --

Section : English Language and Comprehension

Q.1 Find the part of the given sentence that has an error in it. If there is no error, choose 'No error'.
India is already the third-largest aviation market in terms of domestic travel.

- Ans
- 1. India is already the third-largest
 - 2. No error
 - 3. aviation market in
 - 4. terms of domestic travel.

Question Type : MCQ
Question ID : 264330134478
Option 1 ID : 264330526879
Option 2 ID : 264330526882
Option 3 ID : 264330526880
Option 4 ID : 264330526881
Status : Answered
Chosen Option : 4

Q.2 Identify the segment that contains a grammatical error. If there is no error, select 'No error'.
Never put of / until tomorrow what / you can do today.

- Ans**
- 1. Never put of
 - 2. No error
 - 3. you can do today.
 - 4. until tomorrow what

Question Type : **MCQ**
Question ID : **264330136083**
Option 1 ID : **264330533143**
Option 2 ID : **264330533146**
Option 3 ID : **264330533145**
Option 4 ID : **264330533144**
Status : **Answered**
Chosen Option : **4**

Q.3 Select the appropriate antonym for the underlined word.
Amenorrhoea can cause a range of issues, including infertility.

- Ans**
- 1. sterile
 - 2. barrenness
 - 3. stance
 - 4. fecund

Question Type : **MCQ**
Question ID : **264330134495**
Option 1 ID : **264330526944**
Option 2 ID : **264330526943**
Option 3 ID : **264330526946**
Option 4 ID : **264330526945**
Status : **Answered**
Chosen Option : **4**

Q.4 Select the most appropriate option to substitute the bracketed segment in the given sentence. If there is no need to substitute it, select 'no substitution required'.
Chia is currently pursuing a (master's in developmental studies in Netherlands).

- Ans**
- 1. masters' in developmental studies in the Netherlands.
 - 2. master's in developmental studies at Netherlands.
 - 3. No substitution required
 - 4. master's in developmental studies in the Netherlands.

Question Type : **MCQ**
Question ID : **264330136086**
Option 1 ID : **264330533156**
Option 2 ID : **264330533157**
Option 3 ID : **264330533158**
Option 4 ID : **264330533155**
Status : **Answered**
Chosen Option : **1**

Q.5 Select the most appropriate option to fill in the blank.

In 1971, he was awarded the silver _____ of the Society of Arts, London.

- Ans**
- 1. medieval
 - 2. medal
 - 3. meddle
 - 4. metal

Question Type : **MCQ**
Question ID : **264330134795**
Option 1 ID : **264330528123**
Option 2 ID : **264330528126**
Option 3 ID : **264330528125**
Option 4 ID : **264330528124**
Status : **Answered**
Chosen Option : **2**

Q.6 A sentence has been given with a blank to be filled with an appropriate option. Choose the correct alternative.

When there is not _____ to eat, people starve to death.

- Ans**
- 1. some
 - 2. a few
 - 3. enough
 - 4. any

Question Type : **MCQ**
Question ID : **264330134804**
Option 1 ID : **264330528161**
Option 2 ID : **264330528160**
Option 3 ID : **264330528162**
Option 4 ID : **264330528159**
Status : **Answered**
Chosen Option : **3**

Q.7 Choose the word that means the same as the given word.

Impede

- Ans**
- 1. Stalwart
 - 2. Stampede
 - 3. Sore
 - 4. Thwart

Question Type : **MCQ**
Question ID : **264330134814**
Option 1 ID : **264330528196**
Option 2 ID : **264330528195**
Option 3 ID : **264330528198**
Option 4 ID : **264330528197**
Status : **Not Answered**
Chosen Option : **--**

Q.8 Select the most appropriate option to fill in the blank.
I enjoy finding ways to make the most of my budget by being _____.

- Ans** 1. frugal
 2. miser
 3. lethargic
 4. gloomy

Question Type : **MCQ**
Question ID : **264330134501**
Option 1 ID : **264330526968**
Option 2 ID : **264330526967**
Option 3 ID : **264330526969**
Option 4 ID : **264330526970**
Status : **Answered**
Chosen Option : **2**

Q.9 Choose the word that is opposite in meaning to the given word.

Analogous

- Ans** 1. Dissimilar
 2. Puzzle
 3. Straight
 4. Matching

Question Type : **MCQ**
Question ID : **264330135300**
Option 1 ID : **264330530111**
Option 2 ID : **264330530114**
Option 3 ID : **264330530113**
Option 4 ID : **264330530112**
Status : **Answered**
Chosen Option : **1**

Q.10 Choose the sentence with no spelling error.

- Ans** 1. After a long momant, she shock her head.
 2. After a long moment, she shook her head.
 3. After a long moment, she shuok her head.
 4. After a long momment, she shook her head.

Question Type : **MCQ**
Question ID : **264330134794**
Option 1 ID : **264330528122**
Option 2 ID : **264330528119**
Option 3 ID : **264330528121**
Option 4 ID : **264330528120**
Status : **Answered**
Chosen Option : **2**

Q.11 Find the part of the given sentence that has an error in it. If there is no error, choose 'No error'.

Methanol is released from pectin, and is therefore many abundant in fermented fruit.

- Ans
- 1. No error
 - 2. Methanol is released from pectin,
 - 3. and is therefore many
 - 4. abundant in fermented fruit.

Question Type : **MCQ**

Question ID : **264330134528**

Option 1 ID : **264330527074**

Option 2 ID : **264330527071**

Option 3 ID : **264330527072**

Option 4 ID : **264330527073**

Status : **Answered**

Chosen Option : **3**

Q.12 In the following question, out of the given four alternatives, select the alternative which best expresses the meaning of the Idiom/Phrase.

To have the heart of stone

- Ans
- 1. To be fearless
 - 2. Not being able to make a decision
 - 3. To feel no pity
 - 4. To have a hidden agenda

Question Type : **MCQ**

Question ID : **264330134497**

Option 1 ID : **264330526952**

Option 2 ID : **264330526951**

Option 3 ID : **264330526954**

Option 4 ID : **264330526953**

Status : **Answered**

Chosen Option : **3**

Q.13 In the following question, out of the given four alternatives, select the alternative which best expresses the meaning of the Idiom/Phrase.

To have a foot in the grave

- Ans
- 1. To trip somebody over
 - 2. To take risks
 - 3. To be near death
 - 4. To hire a contract killer

Question Type : **MCQ**

Question ID : **264330134496**

Option 1 ID : **264330526947**

Option 2 ID : **264330526950**

Option 3 ID : **264330526949**

Option 4 ID : **264330526948**

Status : **Answered**

Chosen Option : **3**

Q.14 Select the appropriate synonym for the underlined word.
It was a distraction.

- Ans
- 1. faith
 - 2. conviction
 - 3. confusion
 - 4. assurance

Question Type : **MCQ**
Question ID : **264330134492**
Option 1 ID : **264330526933**
Option 2 ID : **264330526934**
Option 3 ID : **264330526932**
Option 4 ID : **264330526931**
Status : **Answered**
Chosen Option : **3**

Q.15 Choose the word that can substitute the given group of words.
The editor of a dictionary

- Ans
- 1. Stenographer
 - 2. Hagiographer
 - 3. Lexicographer
 - 4. Scenographer

Question Type : **MCQ**
Question ID : **264330134491**
Option 1 ID : **264330526928**
Option 2 ID : **264330526929**
Option 3 ID : **264330526930**
Option 4 ID : **264330526927**
Status : **Answered**
Chosen Option : **3**

Q.16 Improve the underlined part of the sentence. Choose 'No improvement' as an answer if
the sentence is grammatically correct.
They selling postage stamps at the corner store.

- Ans
- 1. sold postal stamped
 - 2. sell postage stamps
 - 3. No improvement
 - 4. sells postage stamps

Question Type : **MCQ**
Question ID : **264330134376**
Option 1 ID : **264330526488**
Option 2 ID : **264330526489**
Option 3 ID : **264330526490**
Option 4 ID : **264330526487**
Status : **Answered**
Chosen Option : **2**

Q.17 Choose the incorrectly spelt word.

- Ans 1. Helpful
 2. Energetic
 3. Juorney
 4. Possible

Question Type : MCQ
Question ID : 264330134498
Option 1 ID : 264330526955
Option 2 ID : 264330526956
Option 3 ID : 264330526958
Option 4 ID : 264330526957
Status : Answered
Chosen Option : 3

Q.18 A sentence has been given with a blank to be filled with an appropriate option. Choose the correct alternative.

I always try to _____ chocolates for you.

- Ans 1. brought
 2. bought
 3. bring
 4. bringing

Question Type : MCQ
Question ID : 264330134482
Option 1 ID : 264330526897
Option 2 ID : 264330526898
Option 3 ID : 264330526896
Option 4 ID : 264330526895
Status : Answered
Chosen Option : 3

Q.19 Improve the underlined part of the sentence. Choose 'No improvement' as an answer if the sentence is grammatically correct.

The most worrying aspect of climate change is the effect it has on the world's food supply.

- Ans 1. No improvement
 2. A most worry aspect
 3. A worried aspects
 4. The most worrying aspects

Question Type : MCQ
Question ID : 264330134481
Option 1 ID : 264330526894
Option 2 ID : 264330526891
Option 3 ID : 264330526893
Option 4 ID : 264330526892
Status : Answered
Chosen Option : 1

Q.20 Choose the word that can substitute the given group of words.
A person appointed by two parties to solve a problem

- Ans 1. Jury
 2. Advocate
 3. Judge
 4. Arbitrator

Question Type : MCQ
Question ID : 264330134490
Option 1 ID : 264330526924
Option 2 ID : 264330526925
Option 3 ID : 264330526923
Option 4 ID : 264330526926
Status : Answered
Chosen Option : 4

Comprehension:

In the following passage some of the words have been deleted. Read the passage carefully and select the correct answer for the given blank out of the four alternatives.

Although the (1) _____ in the Supreme Court arise out of the judgments or orders made by the Subordinate Courts including the High Courts, but of late the Supreme Court has started entertaining (2) _____ in which interest of the public at large is involved and the Court can be moved by any (3) _____ or group of persons either by filing a Writ Petition at the Filing Counter of the Court or by (4) _____ a letter to Hon'ble the Chief Justice of India highlighting the question of public importance for (5) _____ this jurisdiction.

SubQuestion No : 21

Q.21 Select the most appropriate option to fill in blank number 1.

- Ans 1. arrangement
 2. battles
 3. punctuality
 4. proceedings

Question Type : MCQ
Question ID : 264330135291
Option 1 ID : 264330530078
Option 2 ID : 264330530076
Option 3 ID : 264330530077
Option 4 ID : 264330530075
Status : Answered
Chosen Option : 4

Comprehension:

In the following passage some of the words have been deleted. Read the passage carefully and select the correct answer for the given blank out of the four alternatives.

Although the (1) _____ in the Supreme Court arise out of the judgments or orders made by the Subordinate Courts including the High Courts, but of late the Supreme Court has started entertaining (2) _____ in which interest of the public at large is involved and the Court can be moved by any (3) _____ or group of persons either by filing a Writ Petition at the Filing Counter of the Court or by (4) _____ a letter to Hon'ble the Chief Justice of India highlighting the question of public importance for (5) _____ this jurisdiction.

SubQuestion No : 22

Q.22 Select the most appropriate option to fill in blank number 2.

- Ans
- 1. jams
 - 2. matters
 - 3. tangents
 - 4. means

Question Type : MCQ

Question ID : 264330135292

Option 1 ID : 264330530080

Option 2 ID : 264330530081

Option 3 ID : 264330530082

Option 4 ID : 264330530079

Status : Answered

Chosen Option : 2

Comprehension:

In the following passage some of the words have been deleted. Read the passage carefully and select the correct answer for the given blank out of the four alternatives.

Although the (1) _____ in the Supreme Court arise out of the judgments or orders made by the Subordinate Courts including the High Courts, but of late the Supreme Court has started entertaining (2) _____ in which interest of the public at large is involved and the Court can be moved by any (3) _____ or group of persons either by filing a Writ Petition at the Filing Counter of the Court or by (4) _____ a letter to Hon'ble the Chief Justice of India highlighting the question of public importance for (5) _____ this jurisdiction.

SubQuestion No : 23

Q.23 Select the most appropriate option to fill in blank number 3.

- Ans
- 1. individual
 - 2. personnel
 - 3. species
 - 4. fauna

Question Type : MCQ

Question ID : 264330135293

Option 1 ID : 264330530084

Option 2 ID : 264330530086

Option 3 ID : 264330530083

Option 4 ID : 264330530085

Status : Answered

Chosen Option : 1

Comprehension:

In the following passage some of the words have been deleted. Read the passage carefully and select the correct answer for the given blank out of the four alternatives.

Although the (1) _____ in the Supreme Court arise out of the judgments or orders made by the Subordinate Courts including the High Courts, but of late the Supreme Court has started entertaining (2) _____ in which interest of the public at large is involved and the Court can be moved by any (3) _____ or group of persons either by filing a Writ Petition at the Filing Counter of the Court or by (4) _____ a letter to Hon'ble the Chief Justice of India highlighting the question of public importance for (5) _____ this jurisdiction.

SubQuestion No : 24

Q.24 Select the most appropriate option to fill in blank number 4.

- Ans**
- 1. addressing
 - 2. Tagging
 - 3. calculating
 - 4. summoning

Question Type : **MCQ**

Question ID : **264330135294**

Option 1 ID : **264330530090**

Option 2 ID : **264330530087**

Option 3 ID : **264330530088**

Option 4 ID : **264330530089**

Status : **Answered**

Chosen Option : **1**

Comprehension:

In the following passage some of the words have been deleted. Read the passage carefully and select the correct answer for the given blank out of the four alternatives.

Although the (1) _____ in the Supreme Court arise out of the judgments or orders made by the Subordinate Courts including the High Courts, but of late the Supreme Court has started entertaining (2) _____ in which interest of the public at large is involved and the Court can be moved by any (3) _____ or group of persons either by filing a Writ Petition at the Filing Counter of the Court or by (4) _____ a letter to Hon'ble the Chief Justice of India highlighting the question of public importance for (5) _____ this jurisdiction.

SubQuestion No : 25

Q.25 Select the most appropriate option to fill in blank number 5.

- Ans**
- 1. Invoking
 - 2. Joking
 - 3. Halting
 - 4. Rocking

Question Type : **MCQ**

Question ID : **264330135295**

Option 1 ID : **264330530093**

Option 2 ID : **264330530094**

Option 3 ID : **264330530091**

Option 4 ID : **264330530092**

Status : **Answered**

Chosen Option : **3**

Multi Tasking Non Technical Staff and Havaladar CBIC and CBN Examination 2022

Roll Number	KD Job Updates
Candidate Name	KD Job Updates
Venue Name	Arya Institute of Engineering and Technology
Exam Date	09/05/2023
Exam Time	9:00 AM - 10:30 AM
Subject	MTS Non Tech Havaladar CBIC and CBN Examination 2022

Section : Numerical and Mathematical Ability

Q.1 6 cm भुजा वाले एक घन से एक सबसे बड़ा संभवित गोला बनाया जाता है। उस गोले का आयतन क्या है?

- Ans
- ✓ 1. $792/7 \text{ cm}^3$
 - ✗ 2. $144/7 \text{ cm}^3$
 - ✗ 3. $444/7 \text{ cm}^3$
 - ✗ 4. $133/3 \text{ cm}^3$

Question Type : MCQ
Question ID : 264330135085
Option 1 ID : 264330529277
Option 2 ID : 264330529276
Option 3 ID : 264330529278
Option 4 ID : 264330529275
Status : Answered
Chosen Option : 1

Q.2 यदि $p : q : r = 2 : 5 : 3$ है और $r : s = 6 : 5$ है , तो $p : q : r : s$ का मान क्या है ?

- Ans
- ✗ 1. 4 : 12 : 7 : 3
 - ✗ 2. 8 : 12 : 7 : 8
 - ✗ 3. 6 : 5 : 8 : 10
 - ✓ 4. 4 : 10 : 6 : 5

Question Type : MCQ
Question ID : 264330137882
Option 1 ID : 264330540138
Option 2 ID : 264330540137
Option 3 ID : 264330540136
Option 4 ID : 264330540135
Status : Answered
Chosen Option : 4

Q.3 एक व्यक्ति ने एक वस्तु खरीदी और उसे 10 प्रतिशत की हानि पर बेच दिया। यदि उसने इसे 30 प्रतिशत कम मूल्य पर खरीदा होता और इसे Rs. 90 अधिक में बेचा होता, तो उसे 35 प्रतिशत का लाभ होता। वस्तु का क्रय मूल्य क्या है?

- Ans
- 1. Rs. 2100
 - 2. Rs. 2000
 - 3. Rs. 2400
 - 4. Rs. 2200

Question Type : MCQ

Question ID : 264330137881

Option 1 ID : 264330540133

Option 2 ID : 264330540132

Option 3 ID : 264330540131

Option 4 ID : 264330540134

Status : Answered

Chosen Option : 2

Q.4 पाँच क्रमागत विषम संख्याओं का औसत 15 है। इन पाँच संख्याओं में सबसे छोटी संख्या कौन-सी है?

- Ans
- 1. 9
 - 2. 11
 - 3. 15
 - 4. 13

Question Type : MCQ

Question ID : 264330137877

Option 1 ID : 264330540118

Option 2 ID : 264330540117

Option 3 ID : 264330540115

Option 4 ID : 264330540116

Status : Answered

Chosen Option : 2

Q.5 आशा ने Rs. 4000 में एक साड़ी खरीदी और उसे Rs. 4400 में बेच दिया। उसका लाभ प्रतिशत कितना है?

- Ans
- 1. 5%
 - 2. 40%
 - 3. 10%
 - 4. 80%

Question Type : MCQ

Question ID : 264330138731

Option 1 ID : 264330543531

Option 2 ID : 264330543533

Option 3 ID : 264330543532

Option 4 ID : 264330543534

Status : Answered

Chosen Option : 3

Q.6 एक वस्तु का अंकित मूल्य उसके क्रय मूल्य का 160 प्रतिशत है। यदि वस्तु पर 20 की प्रतिशत छूट दी जाती है, तो लाभ प्रतिशत कितना होगा?

- Ans**
- ✓ 1. 28 प्रतिशत
 - ✗ 2. 25 प्रतिशत
 - ✗ 3. 32 प्रतिशत
 - ✗ 4. 22 प्रतिशत

Question Type : **MCQ**
Question ID : **264330137886**
Option 1 ID : **264330540152**
Option 2 ID : **264330540153**
Option 3 ID : **264330540154**
Option 4 ID : **264330540151**
Status : **Answered**
Chosen Option : **1**

Q.7 एक रेलगाड़ी 30 m/s की चाल से चलती है और 650 मीटर लंबे पुल को 50 सेकंड में पार कर लेती है। रेलगाड़ी की लंबाई कितनी है?

- Ans**
- ✗ 1. 900 मीटर
 - ✓ 2. 850 मीटर
 - ✗ 3. 1000 मीटर
 - ✗ 4. 750 मीटर

Question Type : **MCQ**
Question ID : **264330137876**
Option 1 ID : **264330540111**
Option 2 ID : **264330540113**
Option 3 ID : **264330540114**
Option 4 ID : **264330540112**
Status : **Answered**
Chosen Option : **2**

Q.8 प्रतिदिन 15 घंटे कार्य करके वैभव एक कार्य को 35 दिनों में पूरा कर सकता है। उसे एक दिन में कितने घंटे कार्य करना चाहिए ताकि कार्य 25 दिनों में पूरा हो जाए?

- Ans**
- ✗ 1. 17 घंटे
 - ✓ 2. 21 घंटे
 - ✗ 3. 20 घंटे
 - ✗ 4. 18 घंटे

Question Type : **MCQ**
Question ID : **264330135080**
Option 1 ID : **264330529258**
Option 2 ID : **264330529256**
Option 3 ID : **264330529255**
Option 4 ID : **264330529257**
Status : **Answered**
Chosen Option : **2**

Q.9 12, 22 और 32 से विभाज्य सबसे छोटा पूर्णांक क्या है?

- Ans
- 1. 1144
 - 2. 444
 - 3. 1080
 - 4. 1056

Question Type : MCQ

Question ID : 264330141036

Option 1 ID : 264330552494

Option 2 ID : 264330552492

Option 3 ID : 264330552493

Option 4 ID : 264330552491

Status : Answered

Chosen Option : 4

Q.10 A किसी कार्य को 21 दिनों में कर सकता है और B उसी कार्य को 28 दिनों में कर सकता है। यदि वे हर दूसरे दिन कार्य करते हैं तो वे कितने दिनों में कार्य को पूरा करेंगे?

- Ans
- 1. 20 दिन
 - 2. 28 दिन
 - 3. 22 दिन
 - 4. 24 दिन

Question Type : MCQ

Question ID : 264330138405

Option 1 ID : 264330542229

Option 2 ID : 264330542230

Option 3 ID : 264330542228

Option 4 ID : 264330542227

Status : Answered

Chosen Option : 4

Q.11 निम्न तालिका में 5 वर्षों में एक कंपनी द्वारा निर्मित और बेचे गए उत्पाद की इकाइयों की संख्या को दर्शाया गया है। न बिके हुए उत्पादों (unsold products) की कुल संख्या की गणना कीजिए।

Years	Number of units manufactured (in hundred)	Sold (in hundred)
2018	440	350
2019	500	450
2020	320	300
2021	450	400
2022	290	200

Number of units manufactured (in hundreds) - निर्मित किए गए उत्पाद की इकाइयों (सैकड़ों में),

Sold (in hundreds) - बेचे गए (सैकड़ों में),

Years - वर्ष

- Ans**
- 1. 20,000
 - 2. 40,000
 - 3. 50,000
 - 4. 30,000

Question Type : **MCQ**

Question ID : **264330135147**

Option 1 ID : **264330529523**

Option 2 ID : **264330529525**

Option 3 ID : **264330529526**

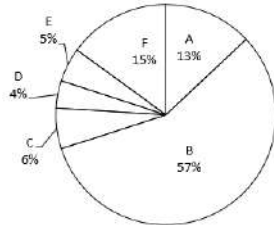
Option 4 ID : **264330529524**

Status : **Answered**

Chosen Option : **4**

Q.12 नीचे दिए गए वृत्त आलेख में एक वर्ष में छः कंपनियों द्वारा बेचे गए मोबाइल फोन की संख्या को दर्शाया गया है।

छः कंपनियों द्वारा बेचे गए कुल मोबाइल फोन की संख्या 500 है। इनमें से किसी एक विशिष्ट कंपनी द्वारा बेचे गए मोबाइल फोन की संख्या को इन सभी छः कंपनियों द्वारा बेचे गए मोबाइल फोन की कुल संख्या के प्रतिशत के रूप में दर्शाया गया है।



C द्वारा बेचे गए मोबाइल फोन की संख्या और F द्वारा बेचे गए मोबाइल फोन की संख्या का अनुपात कितना है?

- Ans**
- 1. 5 : 2
 - 2. 2 : 7
 - 3. 3 : 2
 - 4. 2 : 5

Question Type : **MCQ**

Question ID : **264330137893**

Option 1 ID : **264330540180**

Option 2 ID : **264330540182**

Option 3 ID : **264330540181**

Option 4 ID : **264330540179**

Status : **Answered**

Chosen Option : **4**

Q.13 एक संख्या में पहले 12% की वृद्धि की जाती है और फिर उसमें 12% की कमी की जाती है। संख्या में परिवर्तन है:

- Ans
- 1. 12% की वृद्धि
 - 2. 1.44% की वृद्धि
 - 3. 1.44% की कमी
 - 4. 12% की कमी

Question Type : MCQ

Question ID : 264330133800

Option 1 ID : 264330524226

Option 2 ID : 264330524224

Option 3 ID : 264330524223

Option 4 ID : 264330524225

Status : Answered

Chosen Option : 3

Q.14 एक निश्चित राशि पर, 2 वर्षों के लिए साधारण ब्याज Rs. 12000 है। यदि यह राशि Rs. 12000 है, तो पहले 3 वर्षों के लिए इसी राशि पर समान ब्याज दर पर चक्रवृद्धि ब्याज (वार्षिक रूप से संयोजित) कितना होगा?

- Ans
- 1. Rs. 29300
 - 2. Rs. 22750
 - 3. Rs. 29250
 - 4. Rs. 28500

Question Type : MCQ

Question ID : 264330137635

Option 1 ID : 264330539149

Option 2 ID : 264330539147

Option 3 ID : 264330539150

Option 4 ID : 264330539148

Status : Answered

Chosen Option : 4

Q.15 एक समिति के 15 सदस्यों की औसत आयु 4 वर्ष बढ़ जाती है जब 60 वर्ष और 70 वर्ष आयु वाले दो सदस्यों के स्थान पर दो नए सदस्य आ जाते हैं। नए सदस्यों की औसत आयु क्या है?

- Ans
- 1. 85 वर्ष
 - 2. 105 वर्ष
 - 3. 80 वर्ष
 - 4. 95 वर्ष

Question Type : MCQ

Question ID : 264330137649

Option 1 ID : 264330539203

Option 2 ID : 264330539204

Option 3 ID : 264330539205

Option 4 ID : 264330539206

Status : Answered

Chosen Option : 1

Q.16 Rs. 10000 पर 1 वर्ष 6 माह में 10% वार्षिक दर पर चक्रवृद्धि व्याज कितना है, जहाँ व्याज अर्ध-वार्षिक रूप से संयोजित किया जा रहा है?

- Ans
- 1. Rs. 1625.50
 - 2. Rs. 1576.25
 - 3. Rs. 1422.25
 - 4. Rs. 1826.50

Question Type : MCQ
Question ID : 264330133807
Option 1 ID : 264330524254
Option 2 ID : 264330524251
Option 3 ID : 264330524253
Option 4 ID : 264330524252
Status : Answered
Chosen Option : 2

Q.17 $62.5 \times 2 + 1100 - (16)^2 + (30)^2$ का मान ज्ञात कीजिए:

- Ans
- 1. 1666
 - 2. 1900
 - 3. 1869
 - 4. 1445

Question Type : MCQ
Question ID : 264330135131
Option 1 ID : 264330529459
Option 2 ID : 264330529462
Option 3 ID : 264330529461
Option 4 ID : 264330529460
Status : Answered
Chosen Option : 3

Q.18 चार अंकों की वह सबसे बड़ी संख्या कौन-सी है जिसे 3 और 4 से भाग देने पर प्रत्येक स्थिति में शेषफल 2 बचता है?

- Ans
- 1. 9996
 - 2. 9994
 - 3. 9998
 - 4. 9995

Question Type : MCQ
Question ID : 264330137889
Option 1 ID : 264330540164
Option 2 ID : 264330540166
Option 3 ID : 264330540163
Option 4 ID : 264330540165
Status : Answered
Chosen Option : 3

Q.19 एक समचतुर्भुज के विकर्ण 16 cm और 20 cm हैं। समचतुर्भुज का क्षेत्रफल ज्ञात कीजिए।

- Ans
- 1. 120 cm²
 - 2. 150 cm²
 - 3. 110 cm²
 - 4. 160 cm²

Question Type : MCQ

Question ID : 264330138409

Option 1 ID : 264330542246

Option 2 ID : 264330542244

Option 3 ID : 264330542243

Option 4 ID : 264330542245

Status : Answered

Chosen Option : 4

Q.20 दो छात्रों की आयु का अनुपात 5 : 4 है। उनकी आयु के बीच का अंतर 8 वर्ष है। छोटे छात्र की आयु कितनी है?

- Ans
- 1. 40 वर्ष
 - 2. 48 वर्ष
 - 3. 32 वर्ष
 - 4. 24 वर्ष

Question Type : MCQ

Question ID : 264330137883

Option 1 ID : 264330540139

Option 2 ID : 264330540140

Option 3 ID : 264330540141

Option 4 ID : 264330540142

Status : Answered

Chosen Option : 3

Section : Reasoning Ability and Problem Solving

Q.1 दी गई श्रृंखला में निम्नलिखित में से कौन-सी संख्या प्रश्न चिन्ह (?) के स्थान पर आएगी?
69, 80, 89, 96, 101, ?

- Ans
- 1. 102
 - 2. 104
 - 3. 106
 - 4. 105

Question Type : MCQ

Question ID : 264330133517

Option 1 ID : 264330523099

Option 2 ID : 264330523100

Option 3 ID : 264330523102

Option 4 ID : 264330523101

Status : Answered

Chosen Option : 2

Q.2 दी गई श्रृंखला में निम्नलिखित में से कौन-सी संख्या प्रश्न चिन्ह (?) के स्थान पर आएगी?
57, 54, 52, 49, 47, 44, 42, ?

- Ans
- 1. 40
 - 2. 47
 - 3. 39
 - 4. 27

Question Type : MCQ
Question ID : 264330137800
Option 1 ID : 264330539807
Option 2 ID : 264330539809
Option 3 ID : 264330539810
Option 4 ID : 264330539808
Status : Answered
Chosen Option : 3

Q.3 उस विकल्प को चुनिए जो तीसरे अक्षर-समूह से ठीक उसी तरह संबंधित है जिस तरह दूसरा अक्षर-समूह पहले अक्षर-समूह से संबंधित है।
DAK : FCM :: PVH : ?

- Ans
- 1. RXI
 - 2. SXJ
 - 3. RXJ
 - 4. RJZ

Question Type : MCQ
Question ID : 264330137789
Option 1 ID : 264330539765
Option 2 ID : 264330539766
Option 3 ID : 264330539764
Option 4 ID : 264330539763
Status : Answered
Chosen Option : 3

Q.4 दो कथन दिए गए हैं और दो निष्कर्ष I और II दिए गए हैं। कथनों को सत्य मानते हुए, चाहे वे सामान्यतः ज्ञात तथ्यों से अलग प्रतीत होते हों, निश्चय कीजिए कि कौन-सा निष्कर्ष तार्किक रूप से कथनों के अनुसार है।
कथन:
कुछ सोना, चाँदी हैं।
सभी सोना, प्लैटिनम हैं।
निष्कर्ष:
I. कुछ चाँदी, प्लैटिनम हैं।
II. सभी प्लैटिनम, सोना हैं।

- Ans
- 1. सिर्फ निष्कर्ष I कथनों के अनुसार है
 - 2. निष्कर्ष I और II में से कोई भी कथनों के अनुसार नहीं है
 - 3. सिर्फ निष्कर्ष II कथनों के अनुसार है
 - 4. दोनों निष्कर्ष I और II कथनों के अनुसार है

Question Type : MCQ
Question ID : 264330137797
Option 1 ID : 264330539795
Option 2 ID : 264330539798
Option 3 ID : 264330539796
Option 4 ID : 264330539797
Status : Answered
Chosen Option : 1

Q.5 यदि A का अर्थ 'जोड़', B का अर्थ 'गुणा', C का अर्थ 'घटाव' और D का अर्थ 'भाग' हो, तो निम्नलिखित समीकरण का मान क्या होगा?
7 A 5 C (6 D 3) = ?

- Ans
- 1. 19
 - 2. 16
 - 3. 32
 - 4. 10

Question Type : MCQ
Question ID : 264330137555
Option 1 ID : 264330538829
Option 2 ID : 264330538828
Option 3 ID : 264330538830
Option 4 ID : 264330538827
Status : Answered
Chosen Option : 4

Q.6 एक निश्चित कूट भाषा में, 'AJDM' को 'JDMA' लिखा जाता है। उस कूट भाषा में 'SKWM' को कैसे लिखा जाएगा?

- Ans
- 1. KMMS
 - 2. KWMS
 - 3. KSMW
 - 4. KMWS

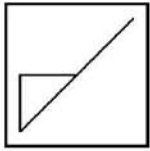
Question Type : MCQ
Question ID : 264330135002
Option 1 ID : 264330528946
Option 2 ID : 264330528944
Option 3 ID : 264330528945
Option 4 ID : 264330528943
Status : Answered
Chosen Option : 2

Q.7 सात भाइयों P, Q, R, S, T, U, और V का जन्म अलग-अलग वर्षों में हुआ था। S, केवल 2 भाइयों से छोटा है और उनमें से कोई भी U नहीं है। P, R से बड़ा है परंतु U और S से छोटा है। R सबसे छोटा नहीं है। U, Q से छोटा है जो T से छोटा है। सबसे छोटा कौन है?

- Ans
- 1. T
 - 2. V
 - 3. Q
 - 4. P

Question Type : MCQ
Question ID : 264330137796
Option 1 ID : 264330539792
Option 2 ID : 264330539794
Option 3 ID : 264330539791
Option 4 ID : 264330539793
Status : Answered
Chosen Option : 2

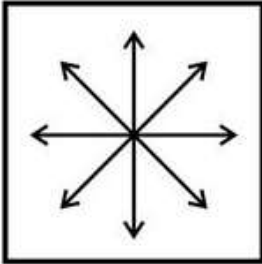
Q.8 उस विकल्प आकृति को चुनिए जिसमें दी गई आकृति (X) उसके भाग के रूप में निहित है (पूर्ण की अनुमति नहीं है)।



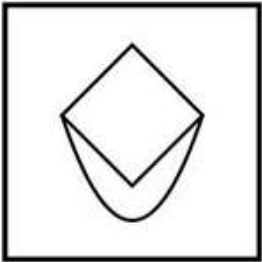
X

Ans

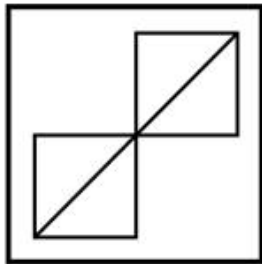
✗ 1.



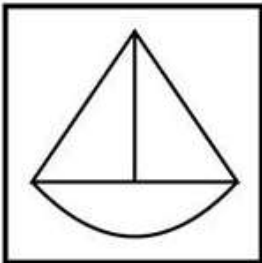
✗ 2.



✓ 3.



✗ 4.



Question Type : MCQ

Question ID : 264330135039

Option 1 ID : 264330529094

Option 2 ID : 264330529091

Option 3 ID : 264330529093

Option 4 ID : 264330529092

Status : Answered

Chosen Option : 3

Q.9 एक निश्चित कूट भाषा में, 'FELLOW' को 'FDNLNY' लिखा जाता है। उस कूट भाषा में 'GOLDEN' को कैसे लिखा जाएगा?

- Ans
- ✓ 1. GNNDDP
 - ✗ 2. GNNEDQ
 - ✗ 3. GNMDEP
 - ✗ 4. DNNDDQ

Question Type : MCQ

Question ID : 264330138835

Option 1 ID : 264330543948

Option 2 ID : 264330543950

Option 3 ID : 264330543947

Option 4 ID : 264330543949

Status : Answered

Chosen Option : 1

Q.10 रीना, मीना, टीना, लीना, और नीना एक सीधी रेखा में दक्षिण की ओर मुख करके बैठी हैं। टीना, रीना के ठीक दाईं ओर बैठी है। रीना और लीना के बीच केवल नीना बैठी है। टीना सबसे आखिर में नहीं बैठी है। नीना के ठीक बाईं ओर कौन बैठा है?

- Ans
- ✗ 1. टीना
 - ✗ 2. मीना
 - ✗ 3. रीना
 - ✓ 4. लीना

Question Type : MCQ

Question ID : 264330137795

Option 1 ID : 264330539788

Option 2 ID : 264330539787

Option 3 ID : 264330539789

Option 4 ID : 264330539790

Status : Answered

Chosen Option : 4

Q.11 दी गई श्रृंखला में निम्नलिखित में से कौन-सा अक्षर-समूह प्रश्न चिन्ह (?) के स्थान पर आएगा?
AGM, CEO, ECQ, GAS, ?

- Ans
- ✗ 1. JZS
 - ✗ 2. IUUY
 - ✗ 3. YUI
 - ✓ 4. IYU

Question Type : MCQ

Question ID : 264330137786

Option 1 ID : 264330539754

Option 2 ID : 264330539752

Option 3 ID : 264330539753

Option 4 ID : 264330539751

Status : Answered

Chosen Option : 4

Q.12 तीन कथन दिए गए हैं और दो निष्कर्ष I और II दिए गए हैं। कथनों को सत्य मानते हुए, चाहे वे सामान्यतः ज्ञात तथ्यों से अलग प्रतीत होते हों, निश्चय कीजिए कि कौन-सा निष्कर्ष तार्किक रूप से कथनों के अनुसार है।
कथन:

सभी छात्र, अच्छे हैं।

रेचेल, छात्र है।

कुछ अच्छे, ईमानदार हैं।

निष्कर्ष:

I. रेचेल, ईमानदार है।

II. कुछ ईमानदार, अच्छे हैं।

Ans

- ✓ 1. सिर्फ निष्कर्ष II कथनों के अनुसार है
- ✗ 2. निष्कर्ष I और II में से कोई भी कथनों के अनुसार नहीं है
- ✗ 3. दोनों निष्कर्ष I और II कथनों के अनुसार हैं
- ✗ 4. सिर्फ निष्कर्ष I कथनों के अनुसार है

Question Type : MCQ

Question ID : 264330137798

Option 1 ID : 264330539800

Option 2 ID : 264330539802

Option 3 ID : 264330539801

Option 4 ID : 264330539799

Status : Answered

Chosen Option : 1

Q.13 उस विकल्प को चुनिए जो तीसरे शब्द से ठीक उसी तरह संबंधित है जिस तरह दूसरा शब्द पहले शब्द से संबंधित है।
घमंडी : अहंकारी :: अमंगल : ?

Ans

- ✗ 1. शांतिप्रिय
- ✓ 2. अशुभ
- ✗ 3. शांतिदायक
- ✗ 4. शांत

Question Type : MCQ

Question ID : 264330137788

Option 1 ID : 264330539759

Option 2 ID : 264330539762

Option 3 ID : 264330539761

Option 4 ID : 264330539760

Status : Answered

Chosen Option : 2

Q.14 दिए गए समीकरण को सही करने के लिए किन दो चिन्हों को आपस में बदला जाना चाहिए?
 $12 + 4 \div 2 - 6 = 16$

- Ans
- 1. \div और $+$
 - 2. \div और $=$
 - 3. $+$ और $-$
 - 4. $-$ और $=$

Question Type : MCQ
Question ID : 264330137803
Option 1 ID : 264330539821
Option 2 ID : 264330539819
Option 3 ID : 264330539822
Option 4 ID : 264330539820
Status : Answered
Chosen Option : 3

Q.15 पाँच लोग P, Q, T, V और R एक परिधि में केंद्र से बाहर की ओर मुख करके बैठे हैं। P, V के ठीक दाईं ओर है। T, V और R के बीच में है। R के ठीक बाईं ओर कौन बैठा है?

- Ans
- 1. V
 - 2. P
 - 3. T
 - 4. Q

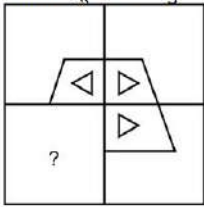
Question Type : MCQ
Question ID : 264330137794
Option 1 ID : 264330539786
Option 2 ID : 264330539783
Option 3 ID : 264330539785
Option 4 ID : 264330539784
Status : Answered
Chosen Option : 4

Q.16 उस विकल्प को चुनिए जो तीसरी संख्या से ठीक उसी प्रकार संबंधित है जिस प्रकार दूसरी संख्या पहली संख्या से संबंधित है।
 $289 : 325 :: 361 : ?$

- Ans
- 1. 401
 - 2. 399
 - 3. 411
 - 4. 400

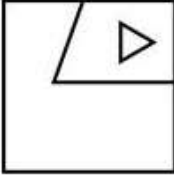
Question Type : MCQ
Question ID : 264330133519
Option 1 ID : 264330523107
Option 2 ID : 264330523109
Option 3 ID : 264330523110
Option 4 ID : 264330523108
Status : Answered
Chosen Option : 1

Q.17 उस विकल्प आकृति को चुनिए जो नीचे दी गई आकृति में पैटर्न को पूरा करने के लिए प्रश्न चिन्ह (?) के स्थान पर आएगी। (घूर्णन की अनुमति नहीं है)

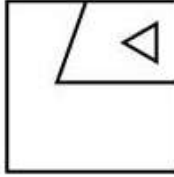


Ans

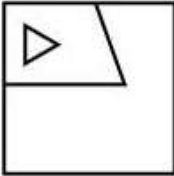
✗ 1.



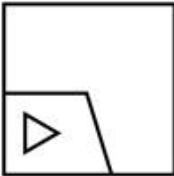
✓ 2.



✗ 3.



✗ 4.



Question Type : MCQ

Question ID : 264330137807

Option 1 ID : 264330539838

Option 2 ID : 264330539835

Option 3 ID : 264330539836

Option 4 ID : 264330539837

Status : Answered

Chosen Option : 2

Q.18 एक निश्चित कूट भाषा में, 'ABSENCE' को 'ASBECNE' लिखा जाता है। उस कूट भाषा में 'EXACTLY' को कैसे लिखा जाएगा?

Ans

✗ 1. EXACTLY

✗ 2. EAXCLYT

✓ 3. EAXCLTY

✗ 4. EAXTCLY

Question Type : MCQ

Question ID : 264330137542

Option 1 ID : 264330538775

Option 2 ID : 264330538778

Option 3 ID : 264330538776

Option 4 ID : 264330538777

Status : Answered

Chosen Option : 3

Q.19 दिए गए पैटर्न का ध्यानपूर्वक अध्ययन कीजिए और उस संख्या को चुनिए जो इसमें प्रश्न चिन्ह (?) के स्थान पर आ सकती है?

प्रथम पंक्ति- 6, 36, 72

द्वितीय पंक्ति- 8, 48, 96

तृतीय पंक्ति- 9, 54, ?

Ans ✓ 1. 108

✗ 2. 105

✗ 3. 231

✗ 4. 130

Question Type : **MCQ**

Question ID : **264330137802**

Option 1 ID : **264330539818**

Option 2 ID : **264330539815**

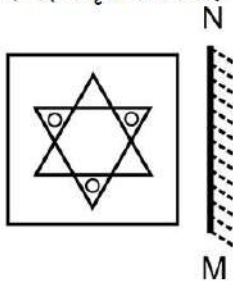
Option 3 ID : **264330539816**

Option 4 ID : **264330539817**

Status : **Answered**

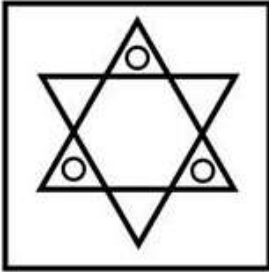
Chosen Option : **1**

Q.20 दी गई आकृति के उस सही दर्पण प्रतिबिंब को चुनिए जो दर्पण को आकृति के दाईं ओर रखने पर बनेगा।

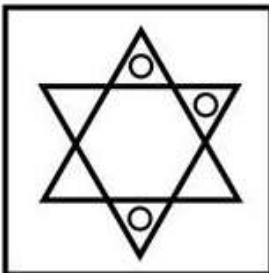


Ans

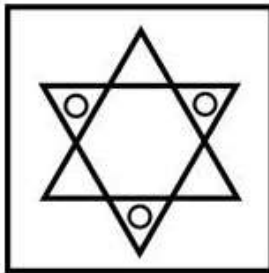
✗ 1.



✗ 2.



✓ 3.



✗ 4.



Question Type : MCQ

Question ID : 264330135040

Option 1 ID : 264330529096

Option 2 ID : 264330529095

Option 3 ID : 264330529097

Option 4 ID : 264330529098

Status : Answered

Chosen Option : 3

Q.1 वर्ष 2011 की जनगणना के अनुसार, निम्नलिखित में से कौन-सा देश सबसे अधिक आबादी वाले शीर्ष दस देशों की सूची में शामिल नहीं है?

- Ans
- 1. पाकिस्तान
 - 2. नाइजीरिया
 - 3. कनाडा
 - 4. जापान

Question Type : MCQ

Question ID : 264330138316

Option 1 ID : 264330541874

Option 2 ID : 264330541872

Option 3 ID : 264330541873

Option 4 ID : 264330541871

Status : Answered

Chosen Option : 2

Q.2 निम्नलिखित में से कौन-सी वायुमंडलीय परत सबसे ठंडी परत है?

- Ans
- 1. क्षोभ मंडल
 - 2. मध्य मंडल
 - 3. समताप मंडल
 - 4. ताप मंडल

Question Type : MCQ

Question ID : 264330133989

Option 1 ID : 264330524979

Option 2 ID : 264330524981

Option 3 ID : 264330524980

Option 4 ID : 264330524982

Status : Answered

Chosen Option : 2

Q.3 निम्नलिखित में से किस राज्य में माघ साजी (Magha Saaji) को मकर संक्रांति के रूप में मनाया जाता है?

- Ans
- 1. गुजरात
 - 2. गोवा
 - 3. मध्यप्रदेश
 - 4. हिमाचल प्रदेश

Question Type : MCQ

Question ID : 264330134697

Option 1 ID : 264330527744

Option 2 ID : 264330527745

Option 3 ID : 264330527743

Option 4 ID : 264330527746

Status : Answered

Chosen Option : 4

Q.4 लोकसभा के पीठासीन अधिकारी को _____ कहा जाता है।

Ans ✓ 1. लोकसभा अध्यक्ष (स्पीकर)

✗ 2. अध्यक्ष

✗ 3. उपाध्यक्ष

✗ 4. उप सभापति

Question Type : MCQ

Question ID : 264330137915

Option 1 ID : 264330540267

Option 2 ID : 264330540268

Option 3 ID : 264330540269

Option 4 ID : 264330540270

Status : Answered

Chosen Option : 1

Q.5 मुद्रा की एक इकाई का एक इकाई अवधि में जितनी बार हस्तांतरण होता है, उसे _____ कहते हैं।

Ans ✓ 1. मुद्रा का संचलन वेग

✗ 2. शून्य आर्थिक लाभ

✗ 3. आधार मुद्रा

✗ 4. प्रेषित मुद्रा

Question Type : MCQ

Question ID : 264330138906

Option 1 ID : 264330544231

Option 2 ID : 264330544234

Option 3 ID : 264330544232

Option 4 ID : 264330544233

Status : Answered

Chosen Option : 1

Q.6 निम्नलिखित में से कौन-सा नृत्य महाराष्ट्र का एक लोकप्रिय लोक नृत्य है?

Ans ✗ 1. झूमर

✗ 2. गिद्धा

✗ 3. बिहू

✓ 4. लावणी

Question Type : MCQ

Question ID : 264330137896

Option 1 ID : 264330540194

Option 2 ID : 264330540192

Option 3 ID : 264330540191

Option 4 ID : 264330540193

Status : Answered

Chosen Option : 4

Q.7 सास्वती सेन (Saswati Sen) 2004-2005 के संगीत नाटक अकादमी पुरस्कार की एक गौरवान्वित प्राप्तकर्ता हैं। वह किस नृत्य शैली के लिए पहचानी जाती हैं?

- Ans
- ✓ 1. कथक
 - ✗ 2. मणिपुरी
 - ✗ 3. मोहिनीअट्टम
 - ✗ 4. कुचिपुड़ी

Question Type : MCQ
Question ID : 264330138903
Option 1 ID : 264330544222
Option 2 ID : 264330544219
Option 3 ID : 264330544220
Option 4 ID : 264330544221
Status : Answered
Chosen Option : 4

Q.8 निम्नलिखित में से किस अधिनियम ने प्रांतीय स्तर पर 'द्वैध शासन' प्रणाली को त्याग दिया और लोकप्रिय रूप से निर्वाचित प्रांतीय विधानसभाओं के उद्गमन में सहायता की?

- Ans
- ✗ 1. चार्टर अधिनियम, 1793
 - ✗ 2. पिट्स इंडिया एक्ट, 1784
 - ✓ 3. भारत सरकार अधिनियम, 1935
 - ✗ 4. मांटेग्यू-चेम्सफोर्ड सुधार (भारत शासन अधिनियम), 1919

Question Type : MCQ
Question ID : 264330137726
Option 1 ID : 264330539512
Option 2 ID : 264330539511
Option 3 ID : 264330539514
Option 4 ID : 264330539513
Status : Answered
Chosen Option : 3

Q.9 निम्नलिखित में से किस उपकरण का उपयोग हवा या गैस की आर्द्रता को मापने के लिए किया जाता है?

- Ans
- ✗ 1. बोलोमीटर (Bolometer)
 - ✓ 2. हाइग्रोमीटर (Hygrometer)
 - ✗ 3. हाइड्रोमीटर (Hydrometer)
 - ✗ 4. अल्टिमीटर (Altimeter)

Question Type : MCQ
Question ID : 264330133986
Option 1 ID : 264330524968
Option 2 ID : 264330524970
Option 3 ID : 264330524969
Option 4 ID : 264330524967
Status : Answered
Chosen Option : 2

Q.10 परिवार न्यायालय (संशोधन) विधेयक निम्नलिखित में से किन राज्यों में परिवार न्यायालय अधिनियम के कार्यक्षेत्र के विस्तार के लिए प्रावधान करना चाहता है?

- Ans
- 1. हिमाचल प्रदेश और सिक्किम
 - 2. सिक्किम और मणिपुर
 - 3. हिमाचल प्रदेश और नागालैंड
 - 4. नागालैंड और सिक्किम

Question Type : MCQ
Question ID : 264330137712
Option 1 ID : 264330539457
Option 2 ID : 264330539458
Option 3 ID : 264330539455
Option 4 ID : 264330539456
Status : Not Answered
Chosen Option : --

Q.11 निम्नलिखित में से किसने जहाँगीर की जीवनी लिखी जो इकबालनामा-ए जहाँगीरी (Iqbalnama-i Jahangiri) के नाम से जानी जाती है?

- Ans
- 1. मुतामिद खान
 - 2. इनायत खान
 - 3. अबुल फ़ज़ल
 - 4. अब्दुल रहीम खान

Question Type : MCQ
Question ID : 264330133995
Option 1 ID : 264330525005
Option 2 ID : 264330525006
Option 3 ID : 264330525004
Option 4 ID : 264330525003
Status : Answered
Chosen Option : 2

Q.12 निम्नलिखित में से किस मुगल बादशाह ने आगरा में शीश महल का निर्माण करवाया था?

- Ans
- 1. अकबर
 - 2. हुमायूँ
 - 3. बाबर
 - 4. शाहजहाँ

Question Type : MCQ
Question ID : 264330137715
Option 1 ID : 264330539468
Option 2 ID : 264330539470
Option 3 ID : 264330539469
Option 4 ID : 264330539467
Status : Answered
Chosen Option : 4

Q.13 निम्नलिखित में से किसने मेल्टवाटर चैंपियंस शतरंज टूर (Meltwater Champions Chess Tour) 2022 जीता?

- Ans
- 1. विदित संतोष गुजराती (Vidit Santosh Gujrathi)
 - 2. अर्जुन एरिगोसी (Arjun Erigaisi)
 - 3. यान क्रिस्टोफ डुडा (Jan-Krzysztof Duda)
 - 4. मैग्नस कार्लसन (Magnus Carlsen)

Question Type : MCQ

Question ID : 264330134004

Option 1 ID : 264330525042

Option 2 ID : 264330525039

Option 3 ID : 264330525041

Option 4 ID : 264330525040

Status : Answered

Chosen Option : 2

Q.14 लवलीना बोरगोहेन (Lovlina Borgohain) किस खेल से संबंधित हैं?

- Ans
- 1. टेबल टेनिस
 - 2. मुक्केबाज़ी
 - 3. शतरंज
 - 4. तैराकी

Question Type : MCQ

Question ID : 264330137916

Option 1 ID : 264330540272

Option 2 ID : 264330540273

Option 3 ID : 264330540274

Option 4 ID : 264330540271

Status : Answered

Chosen Option : 2

Q.15 2011 की जनगणना के अनुसार, निम्न में से किस राज्य की जनसंख्या सर्वाधिक है?

- Ans
- 1. बिहार
 - 2. तमिलनाडु
 - 3. महाराष्ट्र
 - 4. उत्तर प्रदेश

Question Type : MCQ

Question ID : 264330134017

Option 1 ID : 264330525091

Option 2 ID : 264330525093

Option 3 ID : 264330525092

Option 4 ID : 264330525094

Status : Answered

Chosen Option : 4

Q.16 कोशिका भित्ति का प्रमुख कार्य क्या है?

- Ans
- ✓ 1. यह कोशिका को आकार और दृढ़ता प्रदान करती है
 - ✗ 2. यह सामाग्री के भंडार गृह की तरह काम करती है
 - ✗ 3. यह कार्बोहाइड्रेट के संश्लेषण में मदद करती है
 - ✗ 4. यह कोशिका विभाजन के लिए उत्तरदायी होती है

Question Type : MCQ
Question ID : 264330137900
Option 1 ID : 264330540210
Option 2 ID : 264330540207
Option 3 ID : 264330540208
Option 4 ID : 264330540209
Status : Answered
Chosen Option : 1

Q.17 म्यांमार निम्नलिखित में से किस राज्य के साथ अपनी सीमा साझा नहीं करता?

- Ans
- ✗ 1. नागालैंड
 - ✓ 2. सिक्किम
 - ✗ 3. मणिपुर
 - ✗ 4. मिज़ोरम

Question Type : MCQ
Question ID : 264330134707
Option 1 ID : 264330527783
Option 2 ID : 264330527786
Option 3 ID : 264330527785
Option 4 ID : 264330527784
Status : Answered
Chosen Option : 2

Q.18 _____ की स्थापना सन् 1867 में दादोबा पांडुरंग और उनके भाई आत्माराम पांडुरंग ने की थी।

- Ans
- ✗ 1. तत्वबोधिनी सभा (Tattvabodhini Sabha)
 - ✗ 2. आर्य समाज
 - ✗ 3. ब्रह्म समाज
 - ✓ 4. प्रार्थना समाज

Question Type : MCQ
Question ID : 264330134710
Option 1 ID : 264330527797
Option 2 ID : 264330527798
Option 3 ID : 264330527796
Option 4 ID : 264330527795
Status : Answered
Chosen Option : 4

Q.19 'प्रधानमंत्री जन-धन योजना (Pradhan Mantri Jan-Dhan Yojana (PMJDY))' के अंतर्गत, अब तक 472 मिलियन से अधिक खाते खोले जा चुके हैं। इस सूची में कौन-सा राज्य शीर्ष स्थान पर है (12 अक्टूबर, 2022 तक)?

- Ans
- 1. हरियाणा
 - 2. उत्तरप्रदेश
 - 3. महाराष्ट्र
 - 4. पश्चिम बंगाल

Question Type : MCQ
Question ID : 264330137894
Option 1 ID : 264330540185
Option 2 ID : 264330540184
Option 3 ID : 264330540183
Option 4 ID : 264330540186
Status : Not Answered
Chosen Option : --

Q.20 सूचना प्रौद्योगिकी के प्रमुख केंद्रों में से एक सिलिकॉन वैली _____ में स्थित है।

- Ans
- 1. कैलिफोर्निया
 - 2. न्यूयॉर्क
 - 3. टोक्यो
 - 4. लंदन

Question Type : MCQ
Question ID : 264330138913
Option 1 ID : 264330544261
Option 2 ID : 264330544262
Option 3 ID : 264330544260
Option 4 ID : 264330544259
Status : Answered
Chosen Option : 1

Q.21 _____ का उपयोग ऐसे मिश्रण को पृथक् करने में किया जाता है जो विघटित हुए बिना उबलते हैं तथा जिनके घटकों के क्वथनांकों के मध्य अधिक अंतराल होता है।

- Ans
- 1. पायसीकरण
 - 2. कार्बोनेशन
 - 3. उर्ध्वपातन
 - 4. आसवन

Question Type : MCQ
Question ID : 264330133988
Option 1 ID : 264330524976
Option 2 ID : 264330524975
Option 3 ID : 264330524977
Option 4 ID : 264330524978
Status : Answered
Chosen Option : 4

Q.22 स्वर्गीय जगजीत सिंह एक लोकप्रिय संगीतकार और _____ गायक थे।

- Ans
- ✓ 1. गज़ल
 - ✗ 2. रॉक
 - ✗ 3. ऑपेरा
 - ✗ 4. पॉप

Question Type : MCQ
Question ID : 264330137912
Option 1 ID : 264330540258
Option 2 ID : 264330540255
Option 3 ID : 264330540256
Option 4 ID : 264330540257
Status : Answered
Chosen Option : 4

Q.23 जिम कॉर्बेट राष्ट्रीय उद्यान भारत के किस राज्य में स्थित है ?

- Ans
- ✓ 1. उत्तराखंड
 - ✗ 2. पंजाब
 - ✗ 3. हिमाचल प्रदेश
 - ✗ 4. उत्तरप्रदेश

Question Type : MCQ
Question ID : 264330137904
Option 1 ID : 264330540223
Option 2 ID : 264330540226
Option 3 ID : 264330540224
Option 4 ID : 264330540225
Status : Answered
Chosen Option : 1

Q.24 भारतीय संविधान का कौन-सा अनुच्छेद समान नागरिक संहिता निर्धारित करता है?

- Ans
- ✗ 1. अनुच्छेद 12
 - ✗ 2. अनुच्छेद 370
 - ✓ 3. अनुच्छेद 44
 - ✗ 4. अनुच्छेद 377

Question Type : MCQ
Question ID : 264330137914
Option 1 ID : 264330540266
Option 2 ID : 264330540264
Option 3 ID : 264330540265
Option 4 ID : 264330540263
Status : Answered
Chosen Option : 3

Q.25 'इन द आफ्टरनून ऑफ टाइम (In The Afternoon of Time)' _____ की एक आत्मकथात्मक पुस्तक है।

- Ans
- 1. पी.टी. उषा
 - 2. सत्यजीत रे
 - 3. हरिवंशराय बच्चन
 - 4. सैम पित्रोदा

Question Type : **MCQ**
Question ID : **264330138901**
Option 1 ID : **264330544211**
Option 2 ID : **264330544213**
Option 3 ID : **264330544214**
Option 4 ID : **264330544212**
Status : **Answered**
Chosen Option : **4**

Section : English Language and Comprehension

Q.1 Select the most appropriate antonym of the given word.

Mad

- Ans
- 1. Dense
 - 2. Distemper
 - 3. Sound
 - 4. Indisposition

Question Type : **MCQ**
Question ID : **264330136075**
Option 1 ID : **264330533113**
Option 2 ID : **264330533112**
Option 3 ID : **264330533114**
Option 4 ID : **264330533111**
Status : **Answered**
Chosen Option : **1**

Q.2 Select the most appropriate option to substitute the bracketed segment in the given sentence. If there is no need to substitute it, select 'no substitution required'.

He suggested (there was collusion through objectors, due to similarities) in some letters sent to the council.

- Ans
- 1. their was collusion by the objectors, due to similarities
 - 2. No substitution required
 - 3. there was collusion between objectors, due to similarities
 - 4. there was collusions from the objector, due to similarities

Question Type : **MCQ**
Question ID : **264330136296**
Option 1 ID : **264330533965**
Option 2 ID : **264330533966**
Option 3 ID : **264330533963**
Option 4 ID : **264330533964**
Status : **Answered**
Chosen Option : **3**

Q.3 Choose the word that means the same as the given word.

Valet

- Ans
- 1. Carrier
 - 2. Carrousel
 - 3. Kingpin
 - 4. Butler

Question Type : **MCQ**
Question ID : **264330135195**
Option 1 ID : **264330529708**
Option 2 ID : **264330529710**
Option 3 ID : **264330529707**
Option 4 ID : **264330529709**
Status : **Not Answered**
Chosen Option : --

Q.4 Select the most appropriate option to fill in the blank.

After suffering so many losses, the company is about to go _____.

- Ans
- 1. awry
 - 2. silent
 - 3. cynical
 - 4. bankrupt

Question Type : **MCQ**
Question ID : **264330134847**
Option 1 ID : **264330528326**
Option 2 ID : **264330528324**
Option 3 ID : **264330528323**
Option 4 ID : **264330528325**
Status : **Answered**
Chosen Option : 4

Q.5 Four words are given, out of which only one word is spelt correctly. Choose the correctly spelt word.

- Ans
- 1. SPLATER
 - 2. ARGUMENT
 - 3. ASSASINATION
 - 4. CALANDER

Question Type : **MCQ**
Question ID : **264330136261**
Option 1 ID : **264330533827**
Option 2 ID : **264330533829**
Option 3 ID : **264330533828**
Option 4 ID : **264330533830**
Status : **Answered**
Chosen Option : 2

Q.6 Find the part of the given sentence that has an error in it. If there is no error, choose 'No error'.

Shapes that are impossible to make of machining can be printed.

- Ans**
- 1. Shapes that are impossible
 - 2. can be printed.
 - 3. No error
 - 4. to make of machining

Question Type : **MCQ**
Question ID : **264330134746**
Option 1 ID : **264330527935**
Option 2 ID : **264330527937**
Option 3 ID : **264330527938**
Option 4 ID : **264330527936**
Status : **Answered**
Chosen Option : **1**

Q.7 In the following question, out of the given four alternatives, select the alternative which best expresses the meaning of the Idiom/Phrase.
Fit as a fiddle

- Ans**
- 1. To drink alcohol regularly
 - 2. To be in love
 - 3. To be firm
 - 4. In a very good physical condition

Question Type : **MCQ**
Question ID : **264330134470**
Option 1 ID : **264330526847**
Option 2 ID : **264330526850**
Option 3 ID : **264330526848**
Option 4 ID : **264330526849**
Status : **Answered**
Chosen Option : **4**

Q.8 Select the most appropriate option to substitute the bracketed segment in the given sentence. If there is no need to substitute it, select 'no substitution required'.

The government appears (to be at war with it's own people.)

- Ans**
- 1. No substitution required
 - 2. to be at war with its own people
 - 3. to be at war against it's own people
 - 4. to be on war with it's own people

Question Type : **MCQ**
Question ID : **264330136669**
Option 1 ID : **264330535398**
Option 2 ID : **264330535396**
Option 3 ID : **264330535397**
Option 4 ID : **264330535395**
Status : **Answered**
Chosen Option : **2**

Q.9 Select the most appropriate word for the given group of words.

The act of destroying or damaging something

- Ans**
- 1. Revenge
 - 2. Vengeance
 - 3. Sabotage
 - 4. Avenge

Question Type : **MCQ**
Question ID : **264330136254**
Option 1 ID : **264330533801**
Option 2 ID : **264330533799**
Option 3 ID : **264330533800**
Option 4 ID : **264330533802**
Status : **Answered**
Chosen Option : **3**

Q.10 Select the word from the options which is exactly opposite in meaning to the bracketed word given in the sentence below.

I was (disappointed) to see the lack of coverage afforded to this event.

- Ans**
- 1. Humiliated
 - 2. Dizzy
 - 3. Encouraged
 - 4. Gloomy

Question Type : **MCQ**
Question ID : **264330136258**
Option 1 ID : **264330533817**
Option 2 ID : **264330533818**
Option 3 ID : **264330533815**
Option 4 ID : **264330533816**
Status : **Answered**
Chosen Option : **3**

Q.11 Choose the word that can substitute the given group of words.
A woman with brown hair

- Ans**
- 1. Blunt
 - 2. Blonde
 - 3. Bumble
 - 4. Brunette

Question Type : **MCQ**
Question ID : **264330134464**
Option 1 ID : **264330526825**
Option 2 ID : **264330526826**
Option 3 ID : **264330526824**
Option 4 ID : **264330526823**
Status : **Answered**
Chosen Option : **4**

Q.12 A sentence has been given with a blank to be filled with an appropriate option. Choose the correct alternative.

The story of human evolution _____ a moving target in recent years.

- Ans**
- 1. did has
 - 2. has been
 - 3. have been
 - 4. had being

Question Type : **MCQ**
Question ID : **264330135185**
Option 1 ID : **264330529671**
Option 2 ID : **264330529672**
Option 3 ID : **264330529674**
Option 4 ID : **264330529673**
Status : **Answered**
Chosen Option : **2**

Q.13 Improve the underlined part of the sentence. Choose 'No improvement' as an answer if the sentence is grammatically correct.

My grandmother taught me how to sew my own clothes.

- Ans**
- 1. taught myself
 - 2. taught I
 - 3. No improvement
 - 4. teach mine

Question Type : **MCQ**
Question ID : **264330134800**
Option 1 ID : **264330528145**
Option 2 ID : **264330528143**
Option 3 ID : **264330528146**
Option 4 ID : **264330528144**
Status : **Answered**
Chosen Option : **3**

Q.14 Fill in the blank with the most appropriate option.

I am sorry that I was unable to see _____ of you over the summer.

- Ans**
- 1. many more
 - 2. much
 - 3. many
 - 4. more

Question Type : **MCQ**
Question ID : **264330136245**
Option 1 ID : **264330533770**
Option 2 ID : **264330533769**
Option 3 ID : **264330533767**
Option 4 ID : **264330533768**
Status : **Answered**
Chosen Option : **4**

Q.15 Select the most appropriate synonym of the given word.

Paradise

- Ans
- 1. Ghost
 - 2. Trivial
 - 3. Display
 - 4. Bliss

Question Type : **MCQ**
Question ID : **264330136255**
Option 1 ID : **264330533806**
Option 2 ID : **264330533803**
Option 3 ID : **264330533805**
Option 4 ID : **264330533804**
Status : **Answered**
Chosen Option : **4**

Q.16 Identify the segment that contains a grammatical error. If there is no error, select 'No error'.

Our passage across the Arabian Sea/ was smooth as the most timid of/ navigators could desire.

- Ans
- 1. navigators could desire.
 - 2. was smooth as the most timid of
 - 3. Our passage across the Arabian Sea
 - 4. No error

Question Type : **MCQ**
Question ID : **264330136666**
Option 1 ID : **264330535385**
Option 2 ID : **264330535384**
Option 3 ID : **264330535383**
Option 4 ID : **264330535386**
Status : **Answered**
Chosen Option : **1**

Q.17 Choose the sentence with no spelling error.

- Ans
- 1. How is your currant brand strategy workinnng?
 - 2. How is your current brand strategy working?
 - 3. How is your current brrand strategy working?
 - 4. How is your current brand stretagy working?

Question Type : **MCQ**
Question ID : **264330134846**
Option 1 ID : **264330528319**
Option 2 ID : **264330528320**
Option 3 ID : **264330528322**
Option 4 ID : **264330528321**
Status : **Answered**
Chosen Option : **2**

Q.18 The statement below has been given with bracketed text. Select the option with correct idiom for the bracketed text.

That new budget bill was (totally useless) before it hit the Senate.

- Ans**
- 1. cold feet
 - 2. a fuel to the fire
 - 3. a dead duck
 - 4. a cry wolf

Question Type : **MCQ**

Question ID : **264330136260**

Option 1 ID : **264330533823**

Option 2 ID : **264330533824**

Option 3 ID : **264330533826**

Option 4 ID : **264330533825**

Status : **Answered**

Chosen Option : **3**

Q.19 Fill in the blank with the most appropriate option.

Today is cloudy, but yesterday the sun _____.

- Ans**
- 1. shown
 - 2. burned
 - 3. flamed
 - 4. shone

Question Type : **MCQ**

Question ID : **264330136264**

Option 1 ID : **264330533839**

Option 2 ID : **264330533841**

Option 3 ID : **264330533840**

Option 4 ID : **264330533842**

Status : **Answered**

Chosen Option : **4**

Q.20 Identify the segment that contains a grammatical error. If there is no error, select 'No error'.

The Gryffindors trooped back up / to the castle, none of them talking; / it have been another long day.

- Ans**
- 1. The Gryffindors trooped back up
 - 2. it have been another long day.
 - 3. to the castle, none of them talking;
 - 4. No error

Question Type : **MCQ**

Question ID : **264330136241**

Option 1 ID : **264330533751**

Option 2 ID : **264330533753**

Option 3 ID : **264330533752**

Option 4 ID : **264330533754**

Status : **Answered**

Chosen Option : **2**

Comprehension:

In the following passage some words have been deleted. Fill in the blanks with the help of the alternatives given. Select the most appropriate option for each number.

In 700 BCE Greek poet Hesiod (1) _____ "Theogony" and "Work and Days". In these mythologies, Atlas was a Titan (2) _____ enormous strength. He along with other titans (3) _____ the gods of Mount Olympus. While the other Titans were banished to Tartarus after being defeated by the god Zeus as retribution, Atlas (4) _____ was forced to carry the earth and the sky for an eternity. In depictions of Atlas, obviously carved by human based on myths, he is shown as a stooped figure carrying the (5) _____ on his shoulders. Because of his association with the globe, maps began to be decorated with this image of Atlas.

SubQuestion No : 21

Q.21 Select the most appropriate option to fill in the blank No. 1.

- Ans**
- ✓ 1. wrote
 - ✗ 2. will write
 - ✗ 3. writes
 - ✗ 4. had written

Question Type : **MCQ**

Question ID : **264330136066**

Option 1 ID : **264330533076**

Option 2 ID : **264330533078**

Option 3 ID : **264330533075**

Option 4 ID : **264330533077**

Status : **Answered**

Chosen Option : **1**

Comprehension:

In the following passage some words have been deleted. Fill in the blanks with the help of the alternatives given. Select the most appropriate option for each number.

In 700 BCE Greek poet Hesiod (1) _____ "Theogony" and "Work and Days". In these mythologies, Atlas was a Titan (2) _____ enormous strength. He along with other titans (3) _____ the gods of Mount Olympus. While the other Titans were banished to Tartarus after being defeated by the god Zeus as retribution, Atlas (4) _____ was forced to carry the earth and the sky for an eternity. In depictions of Atlas, obviously carved by human based on myths, he is shown as a stooped figure carrying the (5) _____ on his shoulders. Because of his association with the globe, maps began to be decorated with this image of Atlas.

SubQuestion No : 22

Q.22 Select the most appropriate option to fill in the blank No. 2.

- Ans**
- ✗ 1. at
 - ✓ 2. of
 - ✗ 3. from
 - ✗ 4. in

Question Type : **MCQ**

Question ID : **264330136067**

Option 1 ID : **264330533081**

Option 2 ID : **264330533079**

Option 3 ID : **264330533082**

Option 4 ID : **264330533080**

Status : **Answered**

Chosen Option : **2**

Comprehension:

In the following passage some words have been deleted. Fill in the blanks with the help of the alternatives given. Select the most appropriate option for each number.

In 700 BCE Greek poet Hesiod (1) _____ "Theogony" and "Work and Days". In these mythologies, Atlas was a Titan (2) _____ enormous strength. He along with other titans (3) _____ the gods of Mount Olympus. While the other Titans were banished to Tartarus after being defeated by the god Zeus as retribution, Atlas (4) _____ was forced to carry the earth and the sky for an eternity. In depictions of Atlas, obviously carved by human based on myths, he is shown as a stooped figure carrying the (5) _____ on his shoulders. Because of his association with the globe, maps began to be decorated with this image of Atlas.

SubQuestion No : 23

Q.23 Select the most appropriate option to fill in the blank No. 3.

- Ans 1. challenged
 2. corroborated
 3. claimed
 4. collaborated

Question Type : **MCQ**
Question ID : **264330136068**
Option 1 ID : **264330533085**
Option 2 ID : **264330533084**
Option 3 ID : **264330533083**
Option 4 ID : **264330533086**
Status : **Answered**
Chosen Option : **1**

Comprehension:

In the following passage some words have been deleted. Fill in the blanks with the help of the alternatives given. Select the most appropriate option for each number.

In 700 BCE Greek poet Hesiod (1) _____ "Theogony" and "Work and Days". In these mythologies, Atlas was a Titan (2) _____ enormous strength. He along with other titans (3) _____ the gods of Mount Olympus. While the other Titans were banished to Tartarus after being defeated by the god Zeus as retribution, Atlas (4) _____ was forced to carry the earth and the sky for an eternity. In depictions of Atlas, obviously carved by human based on myths, he is shown as a stooped figure carrying the (5) _____ on his shoulders. Because of his association with the globe, maps began to be decorated with this image of Atlas.

SubQuestion No : 24

Q.24 Select the most appropriate option to fill in the blank No. 4.

- Ans 1. unlike
 2. in fact
 3. however
 4. despite

Question Type : **MCQ**
Question ID : **264330136069**
Option 1 ID : **264330533089**
Option 2 ID : **264330533088**
Option 3 ID : **264330533090**
Option 4 ID : **264330533087**
Status : **Answered**
Chosen Option : **3**

Comprehension:

In the following passage some words have been deleted. Fill in the blanks with the help of the alternatives given. Select the most appropriate option for each number.

In 700 BCE Greek poet Hesiod (1) _____ "Theogony" and "Work and Days". In these mythologies, Atlas was a Titan (2) _____ enormous strength. He along with other titans (3) _____ the gods of Mount Olympus. While the other Titans were banished to Tartarus after being defeated by the god Zeus as retribution, Atlas (4) _____ was forced to carry the earth and the sky for an eternity. In depictions of Atlas, obviously carved by human based on myths, he is shown as a stooped figure carrying the (5) _____ on his shoulders. Because of his association with the globe, maps began to be decorated with this image of Atlas.

SubQuestion No : 25

Q.25 Select the most appropriate option to fill in the blank No. 5.

- Ans**
- 1. universe
 - 2. heavens
 - 3. seas
 - 4. globe

Question Type : **MCQ**

Question ID : **264330136070**

Option 1 ID : **264330533094**

Option 2 ID : **264330533092**

Option 3 ID : **264330533093**

Option 4 ID : **264330533091**

Status : **Answered**

Chosen Option : **4**

Join Qmaths on Social Media:



Telegram Channel

<https://t.me/qmaths>



Facebook Page

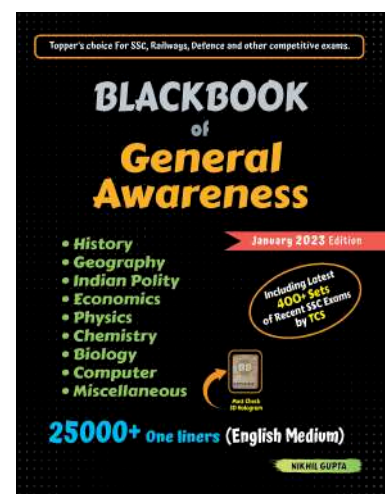

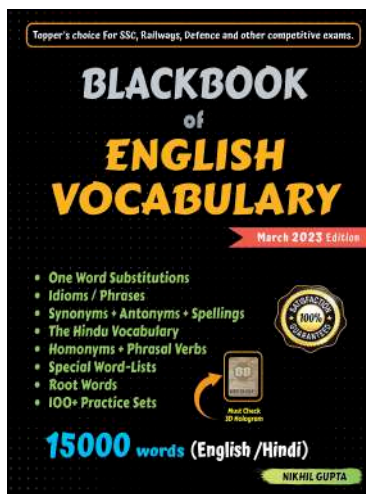
www.fb.com/Qmathsofficial/



YouTube Channel

www.youtube.com/QMaths_in/

Get the latest BlackBooks to Boost your Exam Preparation



Multi Tasking Non Technical Staff and Havaladar CBIC and CBN Examination 2022

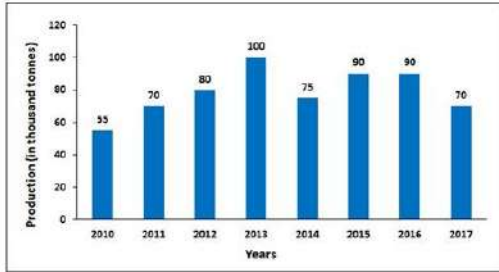
Roll Number	KD Job Updates
Candidate Name	KD Job Updates
Venue Name	iON Digital Zone iDZ Jalalpur
Exam Date	09/05/2023
Exam Time	12:00 PM - 2:00 PM
Subject	MTS Non Tech Havaladar CBIC and CBN Examination 2022 Extra Time

Section : Numerical and Mathematical Ability

Q.1 निम्नलिखित दंड आलेख में कुछ वर्षों में भारत में हुए गेहूँ के उत्पादन (1000 टन में) को दर्शाया गया है। वर्ष 2013 से 2014 तक हुए गेहूँ के उत्पादन में कितने प्रतिशत की गिरावट आई?

production (in thousand tonnes)- उत्पादन (हजार टन में)

years- वर्ष



- Ans
- 1. 5%
 - 2. 25%
 - 3. 35%
 - 4. 15%

Question Type : MCQ

Question ID : 264330133812

Option 1 ID : 264330524272

Option 2 ID : 264330524271

Option 3 ID : 264330524274

Option 4 ID : 264330524273

Status : Answered

Chosen Option : 2

Q.2 एक बस 3 घंटे में 166 Km की यात्रा करती है और फिर अगले 2 घंटे की यात्रा 134 Km/hr की चाल से तय करती है। बस की औसत चाल ज्ञात कीजिए।

- Ans
- 1. 50.4 km/hr
 - 2. 43.8 km/hr
 - 3. 86.8 km/hr
 - 4. 59.4 km/hr

Question Type : MCQ

Question ID : 264330141037

Option 1 ID : 264330552497

Option 2 ID : 264330552498

Option 3 ID : 264330552496

Option 4 ID : 264330552495

Status : Answered

Chosen Option : 3

Q.3 A और B मिलकर एक कार्य को 90 दिनों में पूरा कर सकते हैं। उनकी कुशलता का अनुपात 3:5 है। तेज़ व्यक्ति कितने दिनों में कार्य को पूरा कर सकता है?

- Ans
- 1. 144 दिनों में
 - 2. 118 दिनों में
 - 3. 90 दिनों में
 - 4. 80 दिनों में

Question Type : MCQ

Question ID : 264330138428

Option 1 ID : 264330542321

Option 2 ID : 264330542320

Option 3 ID : 264330542322

Option 4 ID : 264330542319

Status : Answered

Chosen Option : 1

Q.4 $(1/2 + 3/4) \div (1/5 + 3/10)$ का मान निम्न में से _____ के बीच स्थित है।

- Ans
- 1. 2.3 और 2.6
 - 2. 2.0 और 2.2
 - 3. 2.7 और 3.0
 - 4. 1.5 और 1.8

Question Type : MCQ

Question ID : 264330133796

Option 1 ID : 264330524209

Option 2 ID : 264330524208

Option 3 ID : 264330524210

Option 4 ID : 264330524207

Status : Answered

Chosen Option : 1

Q.5 नीचे दी गई तालिका में 6 अलग-अलग स्कूलों में छात्रों की संख्या को दर्शाया गया है।

स्कूल	छात्र
J	360
K	180
L	210
M	240
N	90
P	150

सभी स्कूलों में छात्रों की कुल संख्या कितनी है?

- Ans
- 1. 1180
 - 2. 1020
 - 3. 1230
 - 4. 1340

Question Type : MCQ

Question ID : 264330139074

Option 1 ID : 264330544903

Option 2 ID : 264330544906

Option 3 ID : 264330544904

Option 4 ID : 264330544905

Status : Answered

Chosen Option : 3

Q.6 एक व्यक्ति ने साधारण ब्याज पर 20 प्रतिशत वार्षिक दर पर एक निश्चित राशि ऋण पर दी। 10 वर्षों में, ब्याज की राशि, ऋण पर दी गई राशि से Rs. 800 अधिक है। ऋण पर दी गई राशि कितनी है?

- Ans
- 1. Rs. 400
 - 2. Rs. 1200
 - 3. Rs. 800
 - 4. Rs. 500

Question Type : MCQ

Question ID : 264330139006

Option 1 ID : 264330544633

Option 2 ID : 264330544631

Option 3 ID : 264330544632

Option 4 ID : 264330544634

Status : Answered

Chosen Option : 3

Q.7 एक व्यक्ति ने 2 रुपये में 8 वस्तुएँ खरीदीं। 10% लाभ अर्जित करने के लिए उसे 120 वस्तुओं को किस मूल्य पर बेचना चाहिए?

- Ans
- 1. Rs. 44
 - 2. Rs. 20
 - 3. Rs. 33
 - 4. Rs. 22

Question Type : MCQ

Question ID : 264330135397

Option 1 ID : 264330530495

Option 2 ID : 264330530498

Option 3 ID : 264330530496

Option 4 ID : 264330530497

Status : Answered

Chosen Option : 3

Q.8 एक आयत की भुजाएँ 45 cm और 55 cm हैं। इस आयत का क्षेत्रफल कितना है?

- Ans
- 1. 2475 cm^2
 - 2. 2350 cm^2
 - 3. 2550 cm^2
 - 4. 2675 cm^2

Question Type : MCQ

Question ID : 264330135127

Option 1 ID : 264330529443

Option 2 ID : 264330529446

Option 3 ID : 264330529444

Option 4 ID : 264330529445

Status : Answered

Chosen Option : 1

Q.9 कपिला, विपुल से तीन गुना अधिक कुशल है और साथ मिलकर वे एक कार्य को 30 दिनों में पूरा कर सकते हैं। विपुल अकेले उस कार्य को कितने दिनों में पूरा कर सकता है?

- Ans
- 1. 30 दिन
 - 2. 120 दिन
 - 3. 90 दिन
 - 4. 60 दिन

Question Type : MCQ

Question ID : 264330135123

Option 1 ID : 264330529427

Option 2 ID : 264330529430

Option 3 ID : 264330529429

Option 4 ID : 264330529428

Status : Answered

Chosen Option : 2

Q.10 एक बेईमान दुकानदार अपने माल को क्रय मूल्य पर बेचने का दावा करता है लेकिन खोटे बाट (false weights) का उपयोग करके 10% का लाभ अर्जित करता है। वह 1 kg भार के स्थान पर किस बाट का उपयोग कर रहा है?

- Ans
- 1. 920.30 gm
 - 2. 911.12 gm
 - 3. 900 gm
 - 4. 909.09 gm

Question Type : MCQ

Question ID : 264330133802

Option 1 ID : 264330524234

Option 2 ID : 264330524233

Option 3 ID : 264330524232

Option 4 ID : 264330524231

Status : Answered

Chosen Option : 4

Q.11 एक आदमी ने 11 घंटे में 110 km की दूरी तय की। उसने कुछ दूरी पैदल चलकर 6 km/hr की चाल से तय की और शेष दूरी साइकिल से 14 km/hr की चाल से तय की। साइकिल पर तय की गई दूरी कितनी है?

- Ans
- 1. 77 km
 - 2. 99 km
 - 3. 88 km
 - 4. 66 km

Question Type : MCQ

Question ID : 264330133808

Option 1 ID : 264330524256

Option 2 ID : 264330524258

Option 3 ID : 264330524257

Option 4 ID : 264330524255

Status : Answered

Chosen Option : 1

Q.12 लोहे के दो घन जिनके किनारे 7 cm और 11 cm हैं, को पिघलाकर एक नया घन बनाया जाता है। नए बने घन का आयतन ज्ञात कीजिए।

- Ans
- 1. 1221 cm³
 - 2. 1881 cm³
 - 3. 1674 cm³
 - 4. 1444 cm³

Question Type : MCQ

Question ID : 264330138433

Option 1 ID : 264330542342

Option 2 ID : 264330542340

Option 3 ID : 264330542339

Option 4 ID : 264330542341

Status : Answered

Chosen Option : 3

Q.13 श्रृंखला 500, 505, 515, 530, 550 का औसत है:

- Ans 1. 530
 2. 520
 3. 505
 4. 515

Question Type : MCQ

Question ID : 264330133798

Option 1 ID : 264330524218

Option 2 ID : 264330524217

Option 3 ID : 264330524215

Option 4 ID : 264330524216

Status : Answered

Chosen Option : 2

Q.14 एक निश्चित राशि पर 60 प्रतिशत वार्षिक दर से 2 वर्षों के लिए चक्रवृद्धि ब्याज (वार्षिक रूप से संयोजित) Rs. 6240 है। समान राशि और समान ब्याज दर पर 3 वर्षों के लिए साधारण ब्याज कितना होगा?

- Ans 1. Rs. 6800
 2. Rs. 6500
 3. Rs. 7100
 4. Rs. 7200

Question Type : MCQ

Question ID : 264330137885

Option 1 ID : 264330540149

Option 2 ID : 264330540147

Option 3 ID : 264330540150

Option 4 ID : 264330540148

Status : Answered

Chosen Option : 4

Q.15 दो संख्याएँ 3:5 के अनुपात में हैं। यदि उनका महत्तम समापवर्तक (HCF) 11 है, तो दोनों संख्याओं का योग ज्ञात कीजिए।

- Ans 1. 53
 2. 33
 3. 88
 4. 55

Question Type : MCQ

Question ID : 264330138392

Option 1 ID : 264330542176

Option 2 ID : 264330542178

Option 3 ID : 264330542175

Option 4 ID : 264330542177

Status : Answered

Chosen Option : 3

Q.16 एक व्यक्ति J से K तक 55 km/hr की चाल से जाता है। वह एक निश्चित चाल से K से J तक वापस आता है। यदि उसकी औसत चाल 660/17 km/hr है, तो K से J की ओर जाते समय उसकी चाल क्या थी?

- Ans
- 1. 24 km/hr
 - 2. 42 km/hr
 - 3. 38 km/hr
 - 4. 30 km/hr

Question Type : MCQ
Question ID : 264330135046
Option 1 ID : 264330529119
Option 2 ID : 264330529122
Option 3 ID : 264330529121
Option 4 ID : 264330529120
Status : Answered
Chosen Option : 4

Q.17 एक बटुए में क्रमशः 2:5:3 के अनुपात में Rs. 1, Rs. 2 और Rs. 5 के सिक्के हैं। यदि बटुए में कुल Rs. 54 हैं, तो Rs. 5 के कितने सिक्के हैं?

- Ans
- 1. 6
 - 2. 10
 - 3. 20
 - 4. 4

Question Type : MCQ
Question ID : 264330133804
Option 1 ID : 264330524241
Option 2 ID : 264330524240
Option 3 ID : 264330524242
Option 4 ID : 264330524239
Status : Answered
Chosen Option : 1

Q.18 $3.25 \times 3.25 \times 3.25 + 0.75 \times 0.75 \times 0.75 + 29.25$ का मान क्या है?

- Ans
- 1. 80
 - 2. 64
 - 3. 75
 - 4. 84

Question Type : MCQ
Question ID : 264330139073
Option 1 ID : 264330544901
Option 2 ID : 264330544899
Option 3 ID : 264330544900
Option 4 ID : 264330544902
Status : Answered
Chosen Option : 2

Q.19 एक स्पीकर का अंकित मूल्य Rs.1000 है। एक आदमी 10% और x% के दो क्रमागत बड़े मिलने पर इसे Rs. 873 में खरीदता है। x का मान क्या है?

- Ans
- 1. 8%
 - 2. 4%
 - 3. 5%
 - 4. 3%

Question Type : MCQ

Question ID : 264330133803

Option 1 ID : 264330524237

Option 2 ID : 264330524236

Option 3 ID : 264330524235

Option 4 ID : 264330524238

Status : Answered

Chosen Option : 4

Q.20 एक विद्यालय के पुस्तकालय में विज्ञान और अंग्रेजी की किताबों का अनुपात 10:13 है। यदि विज्ञान की 400 पुस्तकें हैं और विज्ञान की पुस्तकों की माँग में वृद्धि के कारण, विद्यालय प्राधिकरण द्वारा विज्ञान की कुछ पुस्तकें शामिल की जाती हैं और अनुपात 25:26 हो जाता है। नई शामिल की गई विज्ञान की पुस्तकों की संख्या कितनी है?

- Ans
- 1. 80
 - 2. 120
 - 3. 100
 - 4. 50

Question Type : MCQ

Question ID : 264330133805

Option 1 ID : 264330524244

Option 2 ID : 264330524246

Option 3 ID : 264330524243

Option 4 ID : 264330524245

Status : Answered

Chosen Option : 3

Section : Reasoning Ability and Problem Solving

Q.1 यदि A का अर्थ 'जोड़', B का अर्थ 'गुणा', C का अर्थ 'घटाव' और D का अर्थ 'भाग' हो, तो निम्नलिखित समीकरण का मान क्या होगा?
 $10 B 2 C (15 D 5) = ?$

- Ans
- 1. 15
 - 2. 17
 - 3. 21
 - 4. 19

Question Type : MCQ

Question ID : 264330137804

Option 1 ID : 264330539823

Option 2 ID : 264330539825

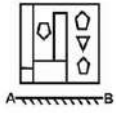
Option 3 ID : 264330539824

Option 4 ID : 264330539826

Status : Answered

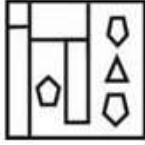
Chosen Option : 2

Q.2 यदि एक दर्पण को रेखा AB पर रखा जाए, तो दी गई विकल्प आकृतियों में से कौन-सी आकृति प्रश्न आकृति का सही प्रतिबिम्ब होगी?

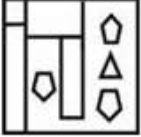


Ans

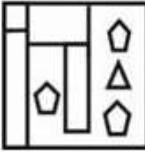
✓ 1.



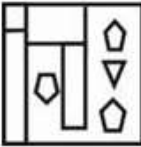
✗ 2.



✗ 3.



✗ 4.



Question Type : MCQ

Question ID : 264330138848

Option 1 ID : 264330544001

Option 2 ID : 264330544002

Option 3 ID : 264330543999

Option 4 ID : 264330544000

Status : Answered

Chosen Option : 1

Q.3 दी गई श्रृंखला में निम्नलिखित में से कौन-सा अक्षर समूह प्रश्न चिन्ह (?) के स्थान पर आएगा?
LB, NZ, PX, RV, ?

Ans ✗ 1. TS

✓ 2. TT

✗ 3. UT

✗ 4. ST

Question Type : MCQ

Question ID : 264330133506

Option 1 ID : 264330523056

Option 2 ID : 264330523055

Option 3 ID : 264330523058

Option 4 ID : 264330523057

Status : Answered

Chosen Option : 2

Q.4 उस विकल्प आकृति को चुनिए जिसमें दी गई आकृति निहित है।(घूर्णन की अनुमति नहीं है)

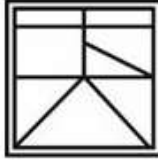


Ans

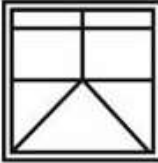
✗ 1.



✓ 2.



✗ 3.



✗ 4.



Question Type : MCQ

Question ID : 264330138847

Option 1 ID : 264330543996

Option 2 ID : 264330543998

Option 3 ID : 264330543995

Option 4 ID : 264330543997

Status : Answered

Chosen Option : 2

Q.5 दो कथन दिए गए हैं और दो निष्कर्ष I और II दिए गए हैं। कथनों को सत्य मानते हुए, चाहे वे सामान्यतः ज्ञात तथ्यों से अलग प्रतीत होते हों, निश्चय कीजिए कि कौन-सा निष्कर्ष तार्किक रूप से कथनों के अनुसार है।
कथन:

कुछ छात्र, प्यारे हैं।

सभी लड़के, प्यारे हैं।

निष्कर्ष:

I. सभी प्यारे, लड़के हैं।

II. कुछ छात्र, लड़के हैं।

Ans

1. केवल निष्कर्ष I कथनों के अनुसार है।
2. न तो निष्कर्ष I न ही II कथनों के अनुसार है।
3. दोनों निष्कर्ष I और II कथनों के अनुसार हैं।
4. केवल निष्कर्ष II कथनों के अनुसार है।

Question Type : MCQ

Question ID : 264330133516

Option 1 ID : 264330523095

Option 2 ID : 264330523098

Option 3 ID : 264330523097

Option 4 ID : 264330523096

Status : Answered

Chosen Option : 2

Q.6 सात छात्र A, B, C, D, X, Y और Z अपनी कक्षा में दक्षिण दिशा की ओर मुख करके बैठे हैं। A और D एक साथ नहीं बैठे हैं। Z, X के बाएँ से दूसरे स्थान पर बैठा है। B, Z के साथ नहीं बैठा है। X, C के दाएँ से चौथे स्थान पर है। A और B एक साथ नहीं बैठे हैं। C, D और Y के बीच में बैठा है। Y, B के बाएँ से दूसरे स्थान पर बैठे व्यक्ति के बाएँ से दूसरे स्थान पर बैठा है। छोरों पर कौन बैठे हैं?

Ans

1. C और Y
2. Z और X
3. B और D
4. A और B

Question Type : MCQ

Question ID : 264330133513

Option 1 ID : 264330523086

Option 2 ID : 264330523083

Option 3 ID : 264330523085

Option 4 ID : 264330523084

Status : Answered

Chosen Option : 3

Q.7 उस विकल्प को चुनिए जो तीसरे शब्द से ठीक उसी प्रकार संबंधित है जिस प्रकार दूसरा शब्द पहले शब्द से संबंधित है।

फ्रांसीसी : भाषा :: रेलगाड़ी : ?

- Ans
- 1. पटरियाँ
 - 2. सामान
 - 3. वाहन
 - 4. यात्रा करना

Question Type : MCQ

Question ID : 264330133507

Option 1 ID : 264330523059

Option 2 ID : 264330523062

Option 3 ID : 264330523060

Option 4 ID : 264330523061

Status : Answered

Chosen Option : 3

Q.8 प्रतीक, किरण, रोहित, सूरज और टोनी पाँच मित्र हैं जिन्होंने एक परीक्षा में अलग-अलग अंक प्राप्त किए हैं। केवल दो मित्रों ने प्रतीक और सूरज के बीच अंक प्राप्त किए हैं। किरण ने सर्वाधिक अंक प्राप्त किए हैं। टोनी ने रोहित से अधिक अंक प्राप्त किए हैं। चौथे स्थान पर सबसे अधिक अंक किसने प्राप्त किए हैं?

- Ans
- 1. रोहित
 - 2. सूरज
 - 3. किरण
 - 4. प्रतीक

Question Type : MCQ

Question ID : 264330133514

Option 1 ID : 264330523089

Option 2 ID : 264330523090

Option 3 ID : 264330523088

Option 4 ID : 264330523087

Status : Answered

Chosen Option : 4

Q.9 6 लोगों के एक परिवार में अनिल, पल्लवी, नवीन, सुमंत, प्रियंका, हरिका दो पंक्तियों में बराबर संख्या में एक दूसरे की ओर मुख करके बैठे हैं। नवीन और प्रियंका पड़ोसी हैं जो उत्तर की ओर मुख करके बैठे हैं। हरिका, नवीन के विकर्णतः सम्मुख बैठी है। पल्लवी, हरिका के बायीं ओर बैठी है। प्रियंका, अनिल के सम्मुख बैठी है। निम्नलिखित में से कौनसे तीन व्यक्ति, दोनों पंक्तियों में से किसी एक पंक्ति में बैठे हैं?

- Ans
- 1. हरिका, प्रियंका, नवीन
 - 2. पल्लवी, अनिल, हरिका
 - 3. पल्लवी, नवीन, प्रियंका
 - 4. हरिका, सुमंत, पल्लवी

Question Type : MCQ

Question ID : 264330133512

Option 1 ID : 264330523079

Option 2 ID : 264330523082

Option 3 ID : 264330523081

Option 4 ID : 264330523080

Status : Answered

Chosen Option : 2

Q.10 एक निश्चित कूट भाषा में, 'FLED' को '4, 10, 3, 2' लिखा जाता है, 'GOAT' को '5, 13, 25, 18' लिखा जाता है।
उस कूट भाषा में 'HECK' को कैसे लिखा जाएगा ?

- Ans
- ✓ 1. 6, 3, 1, 9
 - ✗ 2. 8, 3, 1, 9
 - ✗ 3. 6, 3, 3, 9
 - ✗ 4. 6, 3, 1, 11

Question Type : **MCQ**

Question ID : **264330138834**

Option 1 ID : **264330543945**

Option 2 ID : **264330543946**

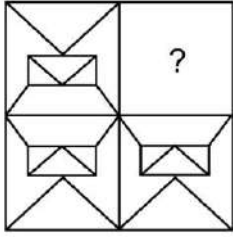
Option 3 ID : **264330543943**

Option 4 ID : **264330543944**

Status : **Answered**

Chosen Option : **1**

Q.11 उस विकल्प आकृति को चुनिए जो नीचे दी गई आकृति में पैटर्न को पूरा करने के लिए प्रश्न चिन्ह(?) के स्थान पर आएगी। (घूर्णन की अनुमति नहीं है)

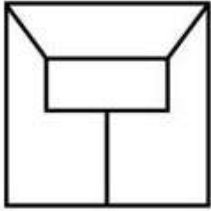


Ans

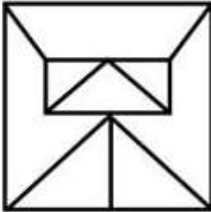
✓ 1.




✗ 2.



✗ 3.



✗ 4.



Question Type : MCQ

Question ID : 264330133525

Option 1 ID : 264330523134

Option 2 ID : 264330523131

Option 3 ID : 264330523132

Option 4 ID : 264330523133

Status : Answered

Chosen Option : 1

Q.12 दो कथन दिए गए हैं और दो निष्कर्ष I और II दिए गए हैं। कथनों को सत्य मानते हुए, चाहे वे सामान्यतः ज्ञात तथ्यों से अलग प्रतीत होते हों, निश्चय कीजिए कि कौन-सा निष्कर्ष तार्किक रूप से कथनों के अनुसार है।
कथन:

कुछ तोते, पक्षी हैं।

सभी पक्षी, जानवर हैं।

निष्कर्ष:

I. सभी जानवर, पक्षी हैं।

II. कुछ जानवर, तोते हैं।

- Ans**
- 1. न तो निष्कर्ष I न ही II कथनों के अनुसार है।
 - 2. केवल निष्कर्ष II कथनों के अनुसार है।
 - 3. दोनों निष्कर्ष I और II कथनों के अनुसार हैं।
 - 4. केवल निष्कर्ष I कथनों के अनुसार है।

Question Type : MCQ

Question ID : 264330133515

Option 1 ID : 264330523094

Option 2 ID : 264330523092

Option 3 ID : 264330523093

Option 4 ID : 264330523091

Status : Answered

Chosen Option : 2

Q.13 उस विकल्प को चुनिए जो तीसरे शब्द से ठीक उसी प्रकार संबंधित है जिस प्रकार दूसरा शब्द पहले शब्द से संबंधित है।
बांग्लादेश : ढाका :: न्यूजीलैंड : ?

- Ans**
- 1. सिडनी
 - 2. कैनबरा
 - 3. वेलिंग्टन
 - 4. मेलबोर्न

Question Type : MCQ

Question ID : 264330133508

Option 1 ID : 264330523064

Option 2 ID : 264330523065

Option 3 ID : 264330523063

Option 4 ID : 264330523066

Status : Answered

Chosen Option : 3

Q.14 दी गई श्रृंखला में निम्नलिखित में से कौन-सी संख्या प्रश्न चिन्ह (?) के स्थान पर आएगी?
87, 168, 217, 242, 251, ?

- Ans
- 1. 253
 - 2. 255
 - 3. 252
 - 4. 254

Question Type : MCQ
Question ID : 264330133518
Option 1 ID : 264330523104
Option 2 ID : 264330523106
Option 3 ID : 264330523103
Option 4 ID : 264330523105
Status : Answered
Chosen Option : 3

Q.15 उस विकल्प को चुनिए जो तीसरे शब्द से ठीक उसी प्रकार संबंधित है जिस प्रकार दूसरा शब्द पहले शब्द से संबंधित है।
दाब: पास्कल :: ऊर्जा : ?

- Ans
- 1. जूल
 - 2. लीटर
 - 3. न्यूटन
 - 4. मीटर

Question Type : MCQ
Question ID : 264330134933
Option 1 ID : 264330528668
Option 2 ID : 264330528669
Option 3 ID : 264330528670
Option 4 ID : 264330528667
Status : Answered
Chosen Option : 1

Q.16 उस समुच्चय को चुनिए जिसमें संख्याएँ उसी प्रकार संबंधित हैं जिस प्रकार निम्नलिखित समुच्चयों की संख्याएँ संबंधित हैं। (ध्यान दें: संख्याओं को उनके घटक अंकों में अलग-अलग किए बिना, पूर्ण संख्याओं पर संक्रियाएँ की जानी चाहिए। उदाहरण 13 - 13 पर संक्रियाएँ जैसे 13 को जोड़ना / घटाना / गुणा करना आदि किया जा सकता है। 13 को 1 एवं 3 में अलग करने की और फिर 1 एवं 3 पर गणितीय संक्रियाएँ करने की अनुमति नहीं है)
(4, 3, 49)
(5, 4, 81)

- Ans
- 1. (5, 4, 100)
 - 2. (6, 5, 121)
 - 3. (6, 2, 36)
 - 4. (7, 5, 121)

Question Type : MCQ
Question ID : 264330133520
Option 1 ID : 264330523111
Option 2 ID : 264330523112
Option 3 ID : 264330523113
Option 4 ID : 264330523114
Status : Answered
Chosen Option : 2

Q.17 नीचे दिए गए समीकरण में कौन-से गणितीय चिन्हों को आपस में बदला जाना चाहिए जिससे यह समीकरण गणितीय रूप से सही हो जाएगा?

$$10 + 54 \div 9 - 4 \times 60 = 116$$

- Ans
- 1. + और -
 - 2. \div और \times
 - 3. - और \times
 - 4. + और \times

Question Type : MCQ

Question ID : 264330133521

Option 1 ID : 264330523117

Option 2 ID : 264330523116

Option 3 ID : 264330523118

Option 4 ID : 264330523115

Status : Answered

Chosen Option : 4

Q.18 एक निश्चित कूट भाषा में, 'MODERN' को 'KOBALJ' लिखा जाता है। उस कूट भाषा में 'PEOPLE' को कैसे लिखा जाएगा?

- Ans
- 1. BINLBN
 - 2. BIMLBN
 - 3. BIMLCM
 - 4. BIMLBM

Question Type : MCQ

Question ID : 264330137521

Option 1 ID : 264330538694

Option 2 ID : 264330538693

Option 3 ID : 264330538691

Option 4 ID : 264330538692

Status : Answered

Chosen Option : 4

Q.19 एक निश्चित कूट भाषा में, 'KHIE' को '9673' लिखा जाता है और 'PEJ' को '1438' लिखा जाता है। उस भाषा में 'DFJC' को कैसे लिखा जाएगा?

- Ans
- 1. 2841
 - 2. 2418
 - 3. 2185
 - 4. 2481

Question Type : MCQ

Question ID : 264330134939

Option 1 ID : 264330528691

Option 2 ID : 264330528693

Option 3 ID : 264330528692

Option 4 ID : 264330528694

Status : Answered

Chosen Option : 4

Q.20 उस विकल्प को चुनिए जो तीसरी संख्या से ठीक उसी तरह संबंधित है जिस तरह दूसरी संख्या पहली संख्या से संबंधित है।
25 : 125 :: 40 : ?

- Ans
- 1. 160
 - 2. 200
 - 3. 130
 - 4. 190

Question Type : MCQ
Question ID : 264330138822
Option 1 ID : 264330543895
Option 2 ID : 264330543897
Option 3 ID : 264330543898
Option 4 ID : 264330543896
Status : Answered
Chosen Option : 2

Section : General Awareness

Q.1 संगम राज्य 'पांड्य' की राजधानी _____ थी।

- Ans
- 1. कावेरीपट्टनम
 - 2. नागपट्टिनम
 - 3. थिरुवरुर
 - 4. मदुरै

Question Type : MCQ
Question ID : 264330138917
Option 1 ID : 264330544275
Option 2 ID : 264330544277
Option 3 ID : 264330544278
Option 4 ID : 264330544276
Status : Answered
Chosen Option : 4

Q.2 किस ब्रिटिश अधिकारी के 'गोली चलाने' के आदेश के परिणामस्वरूप जलियांवाला बाग हत्याकांड हुआ था?

- Ans
- 1. वारेन हेस्टिंग्स
 - 2. चार्ल्स मेटकॉफ
 - 3. चार्ल्स कार्नवालिस
 - 4. रेजिनाल्ड डायर

Question Type : MCQ
Question ID : 264330137909
Option 1 ID : 264330540245
Option 2 ID : 264330540246
Option 3 ID : 264330540243
Option 4 ID : 264330540244
Status : Answered
Chosen Option : 4

Q.3 निम्नलिखित में से कौन भारत रत्न से सम्मानित होने वाले पहले संगीतकार थे?

Ans 1. एम.एस. सुब्बुलक्ष्मी (M.S. Subbulakshmi)

2.

सेम्मनगुडी श्रीनिवास अय्यर (Semmangudi Srinivasa Iyer)

3. गिरिजा देवी (Girija Devi)

4. सिद्धेश्वरी देवी (Siddheswari Devi)

Question Type : MCQ

Question ID : 264330133999

Option 1 ID : 264330525022

Option 2 ID : 264330525019

Option 3 ID : 264330525020

Option 4 ID : 264330525021

Status : Answered

Chosen Option : 1

Q.4 राजनीति पर ग्रंथ "अर्थशास्त्र (Arthashastra)" किसने लिखा था?

Ans 1. रघुवंशम

2. कादंबरी

3. कौटिल्य

4. कालिदास

Question Type : MCQ

Question ID : 264330137703

Option 1 ID : 264330539421

Option 2 ID : 264330539422

Option 3 ID : 264330539420

Option 4 ID : 264330539419

Status : Answered

Chosen Option : 3

Q.5 _____ ने जुलाई 2022 में विश्व खेलों 2022 की मेजबानी की।

Ans 1. इटली

2. जापान

3. जर्मनी

4. संयुक्त राज्य अमेरिका

Question Type : MCQ

Question ID : 264330134003

Option 1 ID : 264330525038

Option 2 ID : 264330525035

Option 3 ID : 264330525037

Option 4 ID : 264330525036

Status : Not Answered

Chosen Option : --

Q.6 भारत में, सड़कों को उनकी क्षमता के अनुसार _____ वर्गों में वर्गीकृत किया गया है।

- Ans
- 1. तीन
 - 2. सात
 - 3. छः
 - 4. चार

Question Type : MCQ

Question ID : 264330137695

Option 1 ID : 264330539389

Option 2 ID : 264330539390

Option 3 ID : 264330539388

Option 4 ID : 264330539387

Status : Answered

Chosen Option : 4

Q.7 निम्नलिखित में से क्या पश्चिमी घाट का एक हिस्सा नहीं है?

- Ans
- 1. अन्नामलाई पहाड़ियाँ (Anaimalai Hills)
 - 2. नीलगिरी पहाड़ियाँ (Nilgiri Hills)
 - 3. महादेव पहाड़ियाँ (Mahadeo Hills)
 - 4. इलायची पहाड़ियाँ (Cardamom Hills)

Question Type : MCQ

Question ID : 264330133991

Option 1 ID : 264330524990

Option 2 ID : 264330524988

Option 3 ID : 264330524989

Option 4 ID : 264330524987

Status : Answered

Chosen Option : 3

Q.8 जिस प्रतिबिंब को पर्दे पर प्राप्त नहीं किया जा सकता है, _____ कहलाता है।

- Ans
- 1. वास्तविक प्रतिबिंब
 - 2. वेक्टर प्रतिबिंब
 - 3. आभासी प्रतिबिंब
 - 4. वर्णक्रमीय प्रतिबिंब

Question Type : MCQ

Question ID : 264330138887

Option 1 ID : 264330544155

Option 2 ID : 264330544158

Option 3 ID : 264330544156

Option 4 ID : 264330544157

Status : Answered

Chosen Option : 2

Q.9 फीफा विश्व कप 2022 की मेजबानी किस देश ने की थी?

- Ans
- 1. फ्रांस
 - 2. जापान
 - 3. जर्मनी
 - 4. कतर

Question Type : MCQ

Question ID : 264330138875

Option 1 ID : 264330544108

Option 2 ID : 264330544110

Option 3 ID : 264330544107

Option 4 ID : 264330544109

Status : Answered

Chosen Option : 4

Q.10 बांग्लादेश निम्नलिखित में से किस भारतीय राज्य के साथ अपनी सीमा साझा नहीं करता है?

- Ans
- 1. सिक्किम
 - 2. पश्चिम बंगाल
 - 3. असम
 - 4. त्रिपुरा

Question Type : MCQ

Question ID : 264330137048

Option 1 ID : 264330536837

Option 2 ID : 264330536835

Option 3 ID : 264330536836

Option 4 ID : 264330536838

Status : Answered

Chosen Option : 1

Q.11 बौद्ध वास्तुकला के संदर्भ में, चैत्य का क्या अर्थ है?

- Ans
- 1. मंदिर का प्रवेश द्वार
 - 2. निवास/मठ
 - 3. बुद्ध से संबंधित अवशेष
 - 4. प्रार्थना कक्ष

Question Type : MCQ

Question ID : 264330137898

Option 1 ID : 264330540202

Option 2 ID : 264330540199

Option 3 ID : 264330540200

Option 4 ID : 264330540201

Status : Answered

Chosen Option : 3

Q.12 अक्टूबर 2022 की स्थिति के अनुसार, इंदिरा गांधी राष्ट्रीय वृद्धावस्था पेंशन योजना (IGNOAPS) के अंतर्गत, 60 वर्ष या उससे अधिक आयु के BPL (गरीबी रेखा से नीचे जीवनयापन करने वाले) व्यक्ति 79 वर्ष की आयु तक _____ की मासिक पेंशन के हकदार हैं।

- Ans
- 1. Rs 250
 - 2. Rs 400
 - 3. Rs 200
 - 4. Rs 350

Question Type : MCQ
Question ID : 264330137723
Option 1 ID : 264330539502
Option 2 ID : 264330539501
Option 3 ID : 264330539500
Option 4 ID : 264330539499
Status : Answered
Chosen Option : 2

Q.13 GST बिल में कितने टैक्स स्लैब वर्गीकृत हैं?

- Ans
- 1. तीन
 - 2. सात
 - 3. चार
 - 4. आठ

Question Type : MCQ
Question ID : 264330137895
Option 1 ID : 264330540190
Option 2 ID : 264330540188
Option 3 ID : 264330540187
Option 4 ID : 264330540189
Status : Answered
Chosen Option : 3

Q.14 झिझिया (Jhijhiya) बिहार का एक प्रसिद्ध लोक नृत्य है जिसे पौराणिक शहर मिथिला (Mithila) में किया जाता है। यह नृत्य केवल महिलाओं द्वारा किया जाता है। संपूर्ण नवरात्रि में 'नौ रातों' का यह त्योहार देवी _____ के तीन रूपों की पूजा करने के लिए मनाया जाता है।

- Ans
- 1. सीता, काली और पार्वती
 - 2. काली, लक्ष्मी, दुर्गा
 - 3. सीता, दुर्गा, लक्ष्मी
 - 4. लक्ष्मी, पार्वती और सरस्वती

Question Type : MCQ
Question ID : 264330133983
Option 1 ID : 264330524955
Option 2 ID : 264330524956
Option 3 ID : 264330524958
Option 4 ID : 264330524957
Status : Answered
Chosen Option : 2

Q.15 भारतीय राष्ट्रीय कांग्रेस ने सन् 1929 में _____ की अध्यक्षता में पूर्ण स्वराज प्रस्ताव पारित किया था।

- Ans
- 1. सरदार वल्लभभाई पटेल
 - 2. महात्मा गांधी
 - 3. जवाहर लाल नेहरू
 - 4. लाला लाजपत राय

Question Type : MCQ
Question ID : 264330138920
Option 1 ID : 264330544290
Option 2 ID : 264330544288
Option 3 ID : 264330544289
Option 4 ID : 264330544287
Status : Answered
Chosen Option : 3

Q.16 अक्टूबर 2022 की स्थिति के अनुसार, भारतीय संविधान में कितने मौलिक कर्तव्य हैं?

- Ans
- 1. 11
 - 2. 12
 - 3. 13
 - 4. 10

Question Type : MCQ
Question ID : 264330134001
Option 1 ID : 264330525028
Option 2 ID : 264330525029
Option 3 ID : 264330525030
Option 4 ID : 264330525027
Status : Answered
Chosen Option : 1

Q.17 "MUDRA योजना" में, 'M' का क्या अर्थ है?

- Ans
- 1. मैक्रो (Macro)
 - 2. मनी (Money)
 - 3. माइक्रो (Micro)
 - 4. मल्टी (Multi)

Question Type : MCQ
Question ID : 264330137710
Option 1 ID : 264330539447
Option 2 ID : 264330539449
Option 3 ID : 264330539448
Option 4 ID : 264330539450
Status : Answered
Chosen Option : 3

Q.18 किसी व्यक्ति को भारत के उपराष्ट्रपति बनने के योग्य होने के लिए, उसकी आयु न्यूनतम _____ वर्ष होनी चाहिए।

- Ans
- ✓ 1. 35
 - ✗ 2. 30
 - ✗ 3. 40
 - ✗ 4. 25

Question Type : MCQ
Question ID : 264330134002
Option 1 ID : 264330525033
Option 2 ID : 264330525031
Option 3 ID : 264330525032
Option 4 ID : 264330525034
Status : Answered
Chosen Option : 1

Q.19 निम्नलिखित में से कौन-सी परत पृथ्वी की वायुमंडलीय परतों में से एक नहीं है?

- Ans
- ✗ 1. मध्यमंडल
 - ✗ 2. समतापमंडल
 - ✗ 3. बाह्य वायुमंडल
 - ✓ 4. अन्तःमंडल

Question Type : MCQ
Question ID : 264330138886
Option 1 ID : 264330544153
Option 2 ID : 264330544151
Option 3 ID : 264330544154
Option 4 ID : 264330544152
Status : Answered
Chosen Option : 4

Q.20 पंडित बिरजू महाराज को निम्नलिखित में से किस पुरस्कार से सम्मानित किया गया था?

- Ans
- ✗ 1. पद्म श्री
 - ✓ 2. पद्म विभूषण
 - ✗ 3. पद्म भूषण
 - ✗ 4. शौर्यचक्र

Question Type : MCQ
Question ID : 264330137705
Option 1 ID : 264330539428
Option 2 ID : 264330539427
Option 3 ID : 264330539429
Option 4 ID : 264330539430
Status : Answered
Chosen Option : 3

Q.21 भ्रूण की वह अवस्था जिसमें सभी शारीरिक भागों की पहचान हो सके _____ कहलाता है।

- Ans
- 1. युग्मनज
 - 2. गर्भाशय
 - 3. गर्भ
 - 4. डिंबोत्सर्जन

Question Type : MCQ

Question ID : 264330138885

Option 1 ID : 264330544150

Option 2 ID : 264330544147

Option 3 ID : 264330544149

Option 4 ID : 264330544148

Status : Answered

Chosen Option : 4

Q.22 _____ ने जैव विकास की अवधारणा को अपनी पुस्तक "दि ओरिजिन ऑफ स्पीशीज़ (The origin of species)" में दिया।

- Ans
- 1. एडवर्ड जेनर (Edward Jenner)
 - 2. अरस्तू (Aristotle)
 - 3. चार्ल्स डार्विन (Charles Darwin)
 - 4. रॉबर्ट ब्राउन (Robert Brown)

Question Type : MCQ

Question ID : 264330133987

Option 1 ID : 264330524974

Option 2 ID : 264330524972

Option 3 ID : 264330524973

Option 4 ID : 264330524971

Status : Answered

Chosen Option : 3

Q.23 केंद्र सरकार ने हाल ही में युवा 2.0 योजना (YUVA 2.0 Scheme) शुरू की है। यह _____ वर्ष से कम आयु के युवा और नवोदित लेखकों के लिए एक प्रशिक्षण एवं परामर्श कार्यक्रम (mentoring programme) है।

- Ans
- 1. 40
 - 2. 35
 - 3. 45
 - 4. 30

Question Type : MCQ

Question ID : 264330133981

Option 1 ID : 264330524947

Option 2 ID : 264330524950

Option 3 ID : 264330524949

Option 4 ID : 264330524948

Status : Answered

Chosen Option : 1

Q.24 गुर्जर-प्रतिहार, राष्ट्रकूट और पाल वंशों के शासक _____ के ऊपर नियंत्रण को लेकर सदियों तक आपस में लड़ते रहे।

- Ans
- ✓ 1. कन्नौज
 - ✗ 2. पाटलिपुत्र
 - ✗ 3. जयपुर
 - ✗ 4. उज्जैन

Question Type : MCQ

Question ID : 264330138893

Option 1 ID : 264330544182

Option 2 ID : 264330544180

Option 3 ID : 264330544181

Option 4 ID : 264330544179

Status : Answered

Chosen Option : 1

Q.25 निम्नलिखित में से कौन-सी देवी/देवता उड़ीसा के पुरी रथ यात्रा उत्सव से संबंधित नहीं है?

- Ans
- ✗ 1. भगवान बलभद्र
 - ✓ 2. भगवान शिव
 - ✗ 3. भगवान जगन्नाथ
 - ✗ 4. देवी सुभद्रा

Question Type : MCQ

Question ID : 264330138897

Option 1 ID : 264330544198

Option 2 ID : 264330544196

Option 3 ID : 264330544195

Option 4 ID : 264330544197

Status : Answered

Chosen Option : 2

Section : English Language and Comprehension

Q.1 Select the most appropriate option to substitute the bracketed segment in the given sentence. If there is no need to substitute it, select 'no substitution required'.
(I wouldn't cross him if I was you, not) if you value your life.

- Ans
- ✗ 1. I wouldn't has crossed him if I were you, not
 - ✓ 2. I wouldn't cross him if I were you, not
 - ✗ 3. No substitution required
 - ✗ 4. I wouldn't had crossed him if I was you, not

Question Type : MCQ

Question ID : 264330136061

Option 1 ID : 264330533059

Option 2 ID : 264330533061

Option 3 ID : 264330533062

Option 4 ID : 264330533060

Status : Answered

Chosen Option : 2

Q.2 In the following question, out of the given four alternatives, select the alternative which best expresses the meaning of the Idiom/Phrase.
Loaves and fishes

- Ans 1. To bury the dead
 2. Material gain
 3. Accidentally kill someone
 4. To let bygones be bygones

Question Type : **MCQ**
Question ID : **264330134471**
Option 1 ID : **264330526851**
Option 2 ID : **264330526853**
Option 3 ID : **264330526852**
Option 4 ID : **264330526854**
Status : **Answered**
Chosen Option : **4**

Q.3 Find the part of the given sentence that has an error in it. If there is no error, choose 'No error'.
When I have arrived at the theatre, the show had already started.

- Ans 1. No error
 2. When I have arrived at
 3. had already started
 4. the theatre, the show

Question Type : **MCQ**
Question ID : **264330134452**
Option 1 ID : **264330526782**
Option 2 ID : **264330526779**
Option 3 ID : **264330526781**
Option 4 ID : **264330526780**
Status : **Answered**
Chosen Option : **2**

Q.4 A sentence has been given with a blank to be filled with an appropriate option. Choose the correct alternative.
John rushed to the spot and saw his wife and kid _____ on the road.

- Ans 1. lain
 2. laying
 3. lying
 4. lie

Question Type : **MCQ**
Question ID : **264330141163**
Option 1 ID : **264330552995**
Option 2 ID : **264330552998**
Option 3 ID : **264330552996**
Option 4 ID : **264330552997**
Status : **Answered**
Chosen Option : **1**

Q.5 Improve the underlined part of the sentence. Choose 'No improvement' as an answer if the sentence is grammatically correct.

The idea was to delivered governmental services at the citizen's doorstep.

- Ans
- 1. deliver government services
 - 2. No improvement
 - 3. delivers governmental servicing
 - 4. delivering government serviced

Question Type : **MCQ**

Question ID : **264330134455**

Option 1 ID : **264330526791**

Option 2 ID : **264330526794**

Option 3 ID : **264330526793**

Option 4 ID : **264330526792**

Status : **Answered**

Chosen Option : 1

Q.6 Select the appropriate synonym for the underlined word.

The child develops a deadly disease.

- Ans
- 1. kind
 - 2. fatal
 - 3. huge
 - 4. corrective

Question Type : **MCQ**

Question ID : **264330134466**

Option 1 ID : **264330526833**

Option 2 ID : **264330526832**

Option 3 ID : **264330526834**

Option 4 ID : **264330526831**

Status : **Answered**

Chosen Option : 2

Q.7 Choose the word that means the same as the given word.

Calamity

- Ans
- 1. Debar
 - 2. Embark
 - 3. Debauchery
 - 4. Debacle

Question Type : **MCQ**

Question ID : **264330136890**

Option 1 ID : **264330536244**

Option 2 ID : **264330536243**

Option 3 ID : **264330536246**

Option 4 ID : **264330536245**

Status : **Answered**

Chosen Option : 4

Q.8 Choose the word that can substitute the given group of words.
To enter unlawfully upon the land of another

- Ans
- 1. Culprit
 - 2. Transgression
 - 3. Trespass
 - 4. Delinquent

Question Type : **MCQ**
Question ID : **264330134465**
Option 1 ID : **264330526828**
Option 2 ID : **264330526830**
Option 3 ID : **264330526827**
Option 4 ID : **264330526829**
Status : **Answered**
Chosen Option : **3**

Q.9 Improve the underlined part of the sentence. Choose 'No improvement' as an answer if the sentence is grammatically correct.
She was bored because she didn't have any work to does.

- Ans
- 1. work to do
 - 2. No improvement
 - 3. works to do
 - 4. work to done

Question Type : **MCQ**
Question ID : **264330134375**
Option 1 ID : **264330526484**
Option 2 ID : **264330526486**
Option 3 ID : **264330526483**
Option 4 ID : **264330526485**
Status : **Answered**
Chosen Option : **1**

Q.10 Select the most appropriate option to fill in the blank.
Today I received a letter. Finally, I _____ back from him.

- Ans
- 1. hard
 - 2. horde
 - 3. herd
 - 4. heard

Question Type : **MCQ**
Question ID : **264330136871**
Option 1 ID : **264330536173**
Option 2 ID : **264330536172**
Option 3 ID : **264330536174**
Option 4 ID : **264330536171**
Status : **Answered**
Chosen Option : **4**

Q.11 Select the most appropriate option to fill in the blank.
Women _____ their male relatives to the battlefield for the purpose of tending the wounded and carrying away the dead.

- Ans
- 1. forsake
 - 2. signify
 - 3. accompany
 - 4. justify

Question Type : **MCQ**
Question ID : **264330134475**
Option 1 ID : **264330526867**
Option 2 ID : **264330526868**
Option 3 ID : **264330526869**
Option 4 ID : **264330526870**
Status : **Answered**
Chosen Option : **3**

Q.12 A sentence has been given with a blank to be filled with an appropriate option. Choose the correct alternative.
The water from the river was _____ cold for me to drink directly.

- Ans
- 1. many
 - 2. most
 - 3. too
 - 4. very

Question Type : **MCQ**
Question ID : **264330134456**
Option 1 ID : **264330526796**
Option 2 ID : **264330526798**
Option 3 ID : **264330526795**
Option 4 ID : **264330526797**
Status : **Answered**
Chosen Option : **3**

Q.13 Find the part of the given sentence that has an error in it. If there is no error, choose 'No error'.
David said that statistics are his favourite subject.

- Ans
- 1. No error
 - 2. David said that
 - 3. favourite subject
 - 4. statistics are his

Question Type : **MCQ**
Question ID : **264330134797**
Option 1 ID : **264330528134**
Option 2 ID : **264330528131**
Option 3 ID : **264330528133**
Option 4 ID : **264330528132**
Status : **Answered**
Chosen Option : **4**

Q.14 Choose the sentence with no spelling error.

- Ans
- 1. I can't stop the tissue from repaying.
 - 2. I can't stop the tissue from repairing.
 - 3. I can't stop the tissue from repairing.
 - 4. I can't stop the tissue from repairing.

Question Type : MCQ

Question ID : 264330136870

Option 1 ID : 264330536170

Option 2 ID : 264330536167

Option 3 ID : 264330536169

Option 4 ID : 264330536168

Status : Answered

Chosen Option : 3

Q.15 In the following question, out of the given four alternatives, select the alternative which best expresses the meaning of the Idiom/Phrase.

Bell the cat

- Ans
- 1. To do a dangerous task
 - 2. To train company's employees
 - 3. To estimate the risks involved
 - 4. To reveal confidential information

Question Type : MCQ

Question ID : 264330136841

Option 1 ID : 264330536058

Option 2 ID : 264330536056

Option 3 ID : 264330536055

Option 4 ID : 264330536057

Status : Answered

Chosen Option : 1

Q.16 Select the appropriate antonym for the underlined word.
Richard himself came up to persuade David to agree to their plan.

- Ans
- 1. coax
 - 2. lure
 - 3. prompt
 - 4. deter

Question Type : MCQ

Question ID : 264330134469

Option 1 ID : 264330526845

Option 2 ID : 264330526843

Option 3 ID : 264330526844

Option 4 ID : 264330526846

Status : Answered

Chosen Option : 4

Q.17 Select the most appropriate antonym of the given word.

Rare

- Ans
- 1. Extraordinary
 - 2. Latent
 - 3. Familiar
 - 4. Clarify

Question Type : MCQ
Question ID : 264330136257
Option 1 ID : 264330533811
Option 2 ID : 264330533812
Option 3 ID : 264330533813
Option 4 ID : 264330533814
Status : Answered
Chosen Option : 3

Q.18 Identify the segment that contains a grammatical error. If there is no error, select 'No error'.

Using a loofah with a hydrating / shower gel each day also ensures / you'll have the most smoothest skin.

- Ans
- 1. shower gel each day also ensures
 - 2. you'll have the most smoothest skin.
 - 3. Using a loofah with a hydrating
 - 4. No error

Question Type : MCQ
Question ID : 264330136058
Option 1 ID : 264330533048
Option 2 ID : 264330533049
Option 3 ID : 264330533047
Option 4 ID : 264330533050
Status : Answered
Chosen Option : 2

Q.19 Choose the word that can substitute the given group of words.

Experiences that are very unpleasant or difficult

- Ans
- 1. Knack
 - 2. Ordeal
 - 3. Strident
 - 4. Pitfall

Question Type : MCQ
Question ID : 264330136835
Option 1 ID : 264330536032
Option 2 ID : 264330536034
Option 3 ID : 264330536031
Option 4 ID : 264330536033
Status : Answered
Chosen Option : 4

Q.20 Choose the incorrectly spelt word.

- Ans 1. Critical
 2. Loudly
 3. Mastery
 4. Lattar

Question Type : **MCQ**

Question ID : **264330134472**

Option 1 ID : **264330526855**

Option 2 ID : **264330526856**

Option 3 ID : **264330526858**

Option 4 ID : **264330526857**

Status : **Answered**

Chosen Option : **4**

Comprehension:

In the following passage some words have been deleted. Fill in the blanks with the help of the alternatives given. Select the most appropriate option for each number.

Dinner in the Great Hall that night (1) _____ a pleasant experience for Sunny. The (2) _____ about his shouting match with Umbridge had (3) _____ exceptionally fast even (4) _____ standards. He heard whispers all (5) _____ as he sat eating between Rob and Ravi.

SubQuestion No : 21

Q.21 Select the most appropriate option to fill in blank number 1.

- Ans 1. was neither
 2. were not
 3. was not
 4. is not

Question Type : **MCQ**

Question ID : **264330136248**

Option 1 ID : **264330533778**

Option 2 ID : **264330533775**

Option 3 ID : **264330533776**

Option 4 ID : **264330533777**

Status : **Answered**

Chosen Option : **3**

Comprehension:

In the following passage some words have been deleted. Fill in the blanks with the help of the alternatives given. Select the most appropriate option for each number.

Dinner in the Great Hall that night (1) _____ a pleasant experience for Sunny. The (2) _____ about his shouting match with Umbridge had (3) _____ exceptionally fast even (4) _____ standards. He heard whispers all (5) _____ as he sat eating between Rob and Ravi.

SubQuestion No : 22

Q.22 Select the most appropriate option to fill in blank number 2.

- Ans**
- 1. account
 - 2. sequence
 - 3. news
 - 4. information

Question Type : **MCQ**

Question ID : **264330136249**

Option 1 ID : **264330533779**

Option 2 ID : **264330533781**

Option 3 ID : **264330533782**

Option 4 ID : **264330533780**

Status : **Answered**

Chosen Option : **3**

Comprehension:

In the following passage some words have been deleted. Fill in the blanks with the help of the alternatives given. Select the most appropriate option for each number.

Dinner in the Great Hall that night (1) _____ a pleasant experience for Sunny. The (2) _____ about his shouting match with Umbridge had (3) _____ exceptionally fast even (4) _____ standards. He heard whispers all (5) _____ as he sat eating between Rob and Ravi.

SubQuestion No : 23

Q.23 Select the most appropriate option to fill in blank number 3.

- Ans**
- 1. travelled
 - 2. drove
 - 3. moved
 - 4. migrated

Question Type : **MCQ**

Question ID : **264330136250**

Option 1 ID : **264330533783**

Option 2 ID : **264330533785**

Option 3 ID : **264330533784**

Option 4 ID : **264330533786**

Status : **Answered**

Chosen Option : **3**

Comprehension:

In the following passage some words have been deleted. Fill in the blanks with the help of the alternatives given. Select the most appropriate option for each number.

Dinner in the Great Hall that night (1) _____ a pleasant experience for Sunny. The (2) _____ about his shouting match with Umbridge had (3) _____ exceptionally fast even (4) _____ standards. He heard whispers all (5) _____ as he sat eating between Rob and Ravi.

SubQuestion No : 24

Q.24 Select the most appropriate option to fill in blank number 4.

- Ans**
- 1. of the institutes'
 - 2. by the institute's
 - 3. at the institute
 - 4. as the institute's

Question Type : **MCQ**
Question ID : **264330136251**
Option 1 ID : **264330533787**
Option 2 ID : **264330533789**
Option 3 ID : **264330533790**
Option 4 ID : **264330533788**
Status : **Answered**
Chosen Option : **2**

Comprehension:

In the following passage some words have been deleted. Fill in the blanks with the help of the alternatives given. Select the most appropriate option for each number.

Dinner in the Great Hall that night (1) _____ a pleasant experience for Sunny. The (2) _____ about his shouting match with Umbridge had (3) _____ exceptionally fast even (4) _____ standards. He heard whispers all (5) _____ as he sat eating between Rob and Ravi.

SubQuestion No : 25

Q.25 Select the most appropriate option to fill in blank number 5.

- Ans**
- 1. rotating him
 - 2. surrounding him
 - 3. revolving him
 - 4. around him

Question Type : **MCQ**
Question ID : **264330136252**
Option 1 ID : **264330533793**
Option 2 ID : **264330533791**
Option 3 ID : **264330533794**
Option 4 ID : **264330533792**
Status : **Answered**
Chosen Option : **2**

Multi Tasking Non Technical Staff and Havaladar CBIC and CBN Examination 2022

Roll Number	KD Job Updates
Candidate Name	KD Job Updates
Venue Name	iON Digital Zone iDZ 1 GT Karnal Road
Exam Date	09/05/2023
Exam Time	3:30 PM - 5:00 PM
Subject	MTS Non Tech Havaladar CBIC and CBN Examination 2022

Section : Numerical and Mathematical Ability

Q.1 35 पुरुष एक कार्य को 15 दिनों में पूरा कर सकते हैं। 15 महिलाएँ उसी कार्य को 35 दिनों में पूरा कर सकती हैं। 9 पुरुष और 16 महिलाएँ कार्य को कितने दिनों में पूरा कर सकते हैं?

- Ans
- 1. 18 दिनों में
 - 2. 10 दिनों में
 - 3. 15 दिनों में
 - 4. 21 दिनों में

Question Type : MCQ

Question ID : 264330138449

Option 1 ID : 264330542406

Option 2 ID : 264330542404

Option 3 ID : 264330542405

Option 4 ID : 264330542403

Status : Answered

Chosen Option : 4

Q.2 मनीषा के बटुए में Rs. 8000 हैं। फिर उसने इसे 10% से बढ़ा दिया। फिर उसने इसमें से 5% खर्च कर दिया। उसके बटुए में मौजूद धनराशि का अंतिम मूल्य, प्रारंभिक धनराशि से कितने प्रतिशत अधिक होगा?

- Ans
- 1. 5%
 - 2. 5.5%
 - 3. 6%
 - 4. 4.5%

Question Type : MCQ

Question ID : 264330134085

Option 1 ID : 264330525363

Option 2 ID : 264330525365

Option 3 ID : 264330525366

Option 4 ID : 264330525364

Status : Answered

Chosen Option : 4

Q.3 तीन धनात्मक संख्याएँ 2:3:5 के अनुपात में हैं। यदि उनके वर्गों का योग 342 है, तो सबसे बड़ी संख्या ज्ञात कीजिए।

- Ans
- 1. 35
 - 2. 55
 - 3. 25
 - 4. 15

Question Type : MCQ

Question ID : 264330135401

Option 1 ID : 264330530512

Option 2 ID : 264330530514

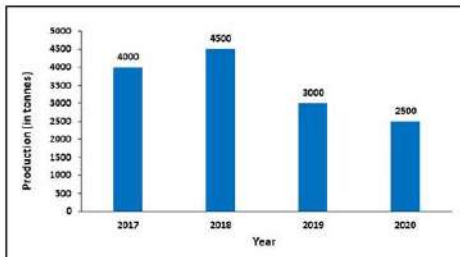
Option 3 ID : 264330530513

Option 4 ID : 264330530511

Status : Answered

Chosen Option : 3

Q.4 निम्नलिखित टंड आलेख में 4 क्रमागत वर्षों में रागी के उत्पादन को दर्शाया गया है। किस वर्ष रागी का उत्पादन न्यूनतम है?



Production (in tonnes): उत्पादन (टन में), Year: वर्ष

- Ans
- 1. 2020
 - 2. 2017
 - 3. 2018
 - 4. 2019

Question Type : MCQ

Question ID : 264330138763

Option 1 ID : 264330543662

Option 2 ID : 264330543659

Option 3 ID : 264330543660

Option 4 ID : 264330543661

Status : Answered

Chosen Option : 1

Q.5 एक व्यक्ति को उसके Rs. 400 के खाने के बिल पर 15% और फिर 35% का बट्टा मिलता है। उसे, रुपये में, कुल कितना बट्टा मिला?

- Ans
- 1. Rs. 255
 - 2. Rs. 179
 - 3. Rs. 250
 - 4. Rs. 300

Question Type : MCQ

Question ID : 264330135399

Option 1 ID : 264330530503

Option 2 ID : 264330530505

Option 3 ID : 264330530506

Option 4 ID : 264330530504

Status : Answered

Chosen Option : 2

Q.6 एक आदमी एक रुपए में 15 पेन खरीदता है। 50 प्रतिशत का लाभ अर्जित करने के लिए उसे एक रुपए में कितनी पेन बेचना चाहिए?

- Ans
- 1. 6
 - 2. 12
 - 3. 8
 - 4. 10

Question Type : MCQ

Question ID : 264330137880

Option 1 ID : 264330540130

Option 2 ID : 264330540128

Option 3 ID : 264330540127

Option 4 ID : 264330540129

Status : Answered

Chosen Option : 4

Q.7 यदि ब्याज वार्षिक रूप से संयोजित हो रहा है, तो चक्रवृद्धि ब्याज पर 16 प्रतिशत वार्षिक दर से 2 वर्ष में कितनी राशि Rs. 4036.8 हो जाएगी?

- Ans
- 1. Rs. 4000
 - 2. Rs. 1500
 - 3. Rs. 3000
 - 4. Rs. 2500

Question Type : MCQ

Question ID : 264330138026

Option 1 ID : 264330540714

Option 2 ID : 264330540711

Option 3 ID : 264330540712

Option 4 ID : 264330540713

Status : Answered

Chosen Option : 3

Q.8 मोनिका ने अपने दादा-दादी से मिलने के लिए एक अविराम फ्लाइट (non-stop flight) ली। 650km की यात्रा में 1 घंटा 30 मिनट का समय लगा। खराब मौसम के कारण वापसी की यात्रा में 2 घंटे 30 मिनट का समय लगा। दोनों तरफ की यात्रा में उसकी औसत चाल क्या थी?

- Ans
- 1. 1300 kmph
 - 2. 325 kmph
 - 3. 550 kmph
 - 4. 690 kmph

Question Type : MCQ

Question ID : 264330141027

Option 1 ID : 264330552455

Option 2 ID : 264330552457

Option 3 ID : 264330552458

Option 4 ID : 264330552456

Status : Answered

Chosen Option : 2

Q.9 यदि एक घन का आयतन 5832 cm^3 है, तो इस घन का पार्श्व पृष्ठीय क्षेत्रफल कितना है?

- Ans 1. 1296 cm^2
 2. 384 cm^2
 3. 1024 cm^2
 4. 576 cm^2

Question Type : MCQ

Question ID : 264330135129

Option 1 ID : 264330529451

Option 2 ID : 264330529454

Option 3 ID : 264330529453

Option 4 ID : 264330529452

Status : Answered

Chosen Option : 1

Q.10 $0.5 + 0.55 + 0.555 + 0.5555$ का मान ज्ञात कीजिए:

- Ans 1. 2.1605
 2. 1.0555
 3. 1.4405
 4. 1.5555

Question Type : MCQ

Question ID : 264330135390

Option 1 ID : 264330530467

Option 2 ID : 264330530470

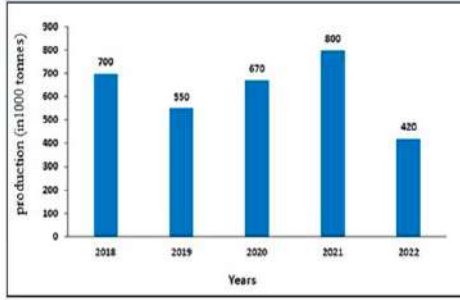
Option 3 ID : 264330530468

Option 4 ID : 264330530469

Status : Answered

Chosen Option : 1

Q.11 नीचे दिए गए दंड आलेख में वर्ष 2018 से 2022 तक एक देश द्वारा किए गए कॉफी के वार्षिक उत्पादन (1000 टन में) को दर्शाया गया है। वर्ष 2018, 2019 और 2020 में कॉफी का औसत उत्पादन (1000 टन में) कितना है?



Production (in 1000 tonnes) = उत्पादन (1000 टन में)

- Ans
- 1. 810
 - 2. 720
 - 3. 640
 - 4. 530

Question Type : MCQ

Question ID : 264330135408

Option 1 ID : 264330530542

Option 2 ID : 264330530541

Option 3 ID : 264330530540

Option 4 ID : 264330530539

Status : Answered

Chosen Option : 3

Q.12 यदि A, 24 और 6 का माध्य समानुपाती है, और B, 81 और 9 का माध्य समानुपाती है, तो $3A + B$ का मान ज्ञात कीजिए।

- Ans
- 1. 32
 - 2. 63
 - 3. 55
 - 4. 33

Question Type : MCQ

Question ID : 264330135400

Option 1 ID : 264330530509

Option 2 ID : 264330530508

Option 3 ID : 264330530507

Option 4 ID : 264330530510

Status : Answered

Chosen Option : 2

Q.13 एक व्यक्ति स्थिर जल में 14 km/hr की चाल से तैर सकता है। यदि उसे धारा के अनुकूल तैरने में लगने वाले समय से दोगुना समय धारा के प्रतिकूल तैरने में लगता है, तो धारा की चाल ज्ञात कीजिए।

- Ans
- 1. 14/5 km/hr
 - 2. 11/4 km/hr
 - 3. 11/5 km/hr
 - 4. 14/3 km/hr

Question Type : **MCQ**

Question ID : **264330135404**

Option 1 ID : **264330530524**

Option 2 ID : **264330530525**

Option 3 ID : **264330530526**

Option 4 ID : **264330530523**

Status : **Answered**

Chosen Option : **4**

Q.14 एक आयत की लंबाई 58 मीटर है, जबकि उसकी चौड़ाई 30 मीटर है। यदि घास की चादर बिछाने की दर Rs.20 per m² है, तो इस पर घास की चादर बिछाने की कुल लागत कितनी आएगी?

- Ans
- 1. Rs. 28500
 - 2. Rs. 32400
 - 3. Rs. 34800
 - 4. Rs. 17400

Question Type : **MCQ**

Question ID : **264330138453**

Option 1 ID : **264330542420**

Option 2 ID : **264330542422**

Option 3 ID : **264330542419**

Option 4 ID : **264330542421**

Status : **Answered**

Chosen Option : **3**

Q.15 एक वस्तु को Rs. 430 में बेचने पर, एक व्यक्ति को 14% की हानि हुई। 14% लाभ अर्जित करने के लिए उस वस्तु को किस मूल्य पर बेचा जाना चाहिए?

- Ans
- 1. Rs. 600
 - 2. Rs. 490
 - 3. Rs. 570
 - 4. Rs. 480

Question Type : **MCQ**

Question ID : **264330135398**

Option 1 ID : **264330530502**

Option 2 ID : **264330530500**

Option 3 ID : **264330530501**

Option 4 ID : **264330530499**

Status : **Answered**

Chosen Option : **3**

Q.16 दो वस्तुओं का औसत मूल्य Rs. 2440 है। यदि उनके मूल्यों का अनुपात 9:11 है, तो महंगी वस्तु का मूल्य ज्ञात कीजिए।

- Ans 1. Rs. 2684
 2. Rs. 2992
 3. Rs. 2442
 4. Rs. 2552

Question Type : MCQ
Question ID : 264330135393
Option 1 ID : 264330530479
Option 2 ID : 264330530481
Option 3 ID : 264330530480
Option 4 ID : 264330530482
Status : Answered
Chosen Option : 1

Q.17 उस घनाभ का कुल पृष्ठीय क्षेत्रफल ज्ञात कीजिए जिसकी लंबाई 23 cm, चौड़ाई 18 cm और ऊँचाई 35 cm है।

- Ans 1. 5436 cm²
 2. 2341 cm²
 3. 3698 cm²
 4. 6541 cm²

Question Type : MCQ
Question ID : 264330138764
Option 1 ID : 264330543665
Option 2 ID : 264330543663
Option 3 ID : 264330543664
Option 4 ID : 264330543666
Status : Answered
Chosen Option : 3

Q.18 दो संख्याओं का महत्तम समापवर्तक (HCF) 7 है और लघुत्तम समापवर्त्य (LCM) 280 है। उनका गुणनफल क्या होगा?

- Ans 1. 1960
 2. 1980
 3. 980
 4. 3920

Question Type : MCQ
Question ID : 264330141041
Option 1 ID : 264330552511
Option 2 ID : 264330552514
Option 3 ID : 264330552513
Option 4 ID : 264330552512
Status : Answered
Chosen Option : 1

Q.19 P अकेले किसी कार्य को 24 दिनों में कर सकता है। Q अकेले इसे 30 दिनों में कर सकता है और R अकेले इसे 20 दिनों में कर सकता है। वे साथ मिलकर इसे कितने दिनों में पूरा कर सकते हैं?

- Ans
- 1. 15 दिन
 - 2. 18 दिन
 - 3. 10 दिन
 - 4. 8 दिन

Question Type : MCQ

Question ID : 264330135124

Option 1 ID : 264330529434

Option 2 ID : 264330529433

Option 3 ID : 264330529431

Option 4 ID : 264330529432

Status : Answered

Chosen Option : 4

Q.20 Rs. 20000 पर 10% वार्षिक दर से 1 वर्ष 6 माह का अर्धवार्षिक रूप से संयोजित चक्रवृद्धि ब्याज कितना होगा?

- Ans
- 1. Rs. 3215.5
 - 2. Rs. 3152.5
 - 3. Rs. 3300
 - 4. Rs. 3200

Question Type : MCQ

Question ID : 264330134092

Option 1 ID : 264330525394

Option 2 ID : 264330525393

Option 3 ID : 264330525392

Option 4 ID : 264330525391

Status : Answered

Chosen Option : 2

Section : Reasoning Ability and Problem Solving

Q.1 एक निश्चित कूट भाषा में, 'BELOW' को 'ASPIF' लिखा जाता है। उस कूट भाषा में 'BLOOD' को कैसे लिखा जाएगा?

- Ans
- 1. HSSQF
 - 2. HSSQG
 - 3. HSSPG
 - 4. HSSPF

Question Type : MCQ

Question ID : 264330138856

Option 1 ID : 264330544032

Option 2 ID : 264330544034

Option 3 ID : 264330544033

Option 4 ID : 264330544031

Status : Answered

Chosen Option : 4

Q.2 एक निश्चित कूट भाषा में, 'MANAGER' को 'GANARME' लिखा जाता है। उस भाषा में 'OFFICER' को कैसे लिखा जाएगा?

- Ans**
- ✓ 1. CIFFROE
 - ✗ 2. CFIFROE
 - ✗ 3. CIFFREO
 - ✗ 4. CFIRFOE

Question Type : **MCQ**

Question ID : **264330137585**

Option 1 ID : **264330538948**

Option 2 ID : **264330538947**

Option 3 ID : **264330538950**

Option 4 ID : **264330538949**

Status : **Answered**

Chosen Option : **1**

Q.3 In the following question below are given some statements followed by some conclusions based on those statements. Taking the given statements to be true even if they seem to be at variance from commonly known facts. Read all the conclusions and then decide which of the given conclusion logically follows the given statements.

Statements:

I. All S are R.

II. No Z is S.

Conclusions:

I. Some S are not Z.

II. Some R are not Z.

III. No R is S.

- Ans**
- ✓ 1. Both conclusions I and II follows
 - ✗ 2. Both conclusions I and III follows
 - ✗ 3. Neither conclusion follows
 - ✗ 4. Only conclusion I follows

Question Type : **MCQ**

Question ID : **264330135605**

Option 1 ID : **264330531321**

Option 2 ID : **264330531319**

Option 3 ID : **264330531322**

Option 4 ID : **264330531320**

Status : **Answered**

Chosen Option : **1**

Q.4 Eight friends Mansi, Shweta, Monika, Payal, Aarti, Kajal, Laxmi and Rani are sitting around a circular table facing towards the centre (not necessarily in the same order). Mansi is third to the left of Monika. Aarti is second to the right of Monika. Shweta is fourth to the left of Payal. Payal is second to the left of Mansi. Rani is third to the right of Kajal. Kajal is not the immediate neighbour of Mansi. Who is second to the left of Monika?

- Ans**
- 1. Mansi
 - 2. Laxmi
 - 3. Rani
 - 4. Aarti

Question Type : **MCQ**
Question ID : **264330135602**
Option 1 ID : **264330531310**
Option 2 ID : **264330531307**
Option 3 ID : **264330531309**
Option 4 ID : **264330531308**
Status : **Answered**
Chosen Option : **2**

Q.5 एक निश्चित कूट भाषा में, 'DEEPAK' को '3' लिखा जाता है और 'MEME' को '2' लिखा जाता है। उस भाषा में 'PLAIN' को कैसे लिखा जाएगा?

- Ans**
- 1. 11
 - 2. 2
 - 3. 4
 - 4. 5

Question Type : **MCQ**
Question ID : **264330133564**
Option 1 ID : **264330523280**
Option 2 ID : **264330523279**
Option 3 ID : **264330523281**
Option 4 ID : **264330523282**
Status : **Answered**
Chosen Option : **2**

Q.6 उस विकल्प को चुनिए जो तीसरे पद से ठीक उसी प्रकार संबंधित है जिस प्रकार दूसरा पद पहले पद से संबंधित है और छठवाँ पद पाँचवें पद से संबंधित है।

AMC : YJA :: PFD : ? :: JCB : HZZ

- Ans**
- 1. MCB
 - 2. NDB
 - 3. MDB
 - 4. NCB

Question Type : **MCQ**
Question ID : **264330135595**
Option 1 ID : **264330531279**
Option 2 ID : **264330531281**
Option 3 ID : **264330531282**
Option 4 ID : **264330531280**
Status : **Answered**
Chosen Option : **4**

Q.7 उस विकल्प को चुनिए जो छठवें पद से ठीक उसी प्रकार संबंधित है जिस प्रकार पहला पद दूसरे पद से संबंधित है और तीसरा पद चौथे पद से संबंधित है।

KTM : GOG :: PAB : VVL :: ? : VJN

- Ans
- 1. ROC
 - 2. QOD
 - 3. ROB
 - 4. QOB

Question Type : MCQ

Question ID : 264330135596

Option 1 ID : 264330531284

Option 2 ID : 264330531286

Option 3 ID : 264330531283

Option 4 ID : 264330531285

Status : Answered

Chosen Option : 3

Q.8 निम्नलिखित प्रश्न में, दी गई श्रृंखला में लुप्त संख्या को चुनिए।

13, 14, 27, 41, 68, ?

- Ans
- 1. 109
 - 2. 110
 - 3. 113
 - 4. 118

Question Type : MCQ

Question ID : 264330135607

Option 1 ID : 264330531330

Option 2 ID : 264330531327

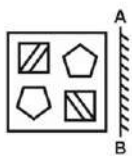
Option 3 ID : 264330531328

Option 4 ID : 264330531329

Status : Answered

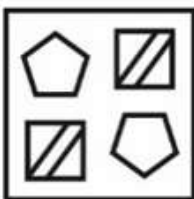
Chosen Option : 1

Q.9 यदि एक दर्पण को रेखा AB पर रखा जाए, तो दी गई विकल्प आकृतियों में से कौन-सी आकृति प्रश्न आकृति का सही प्रतिबिम्ब होगी?

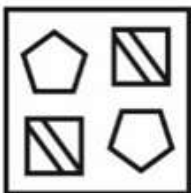


Ans

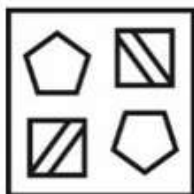
✗ 1.



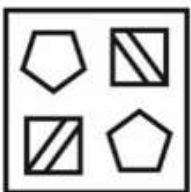
✗ 2.



✓ 3.



✗ 4.



Question Type : MCQ

Question ID : 264330138622

Option 1 ID : 264330543095

Option 2 ID : 264330543097

Option 3 ID : 264330543096

Option 4 ID : 264330543098

Status : Answered

Chosen Option : 3

Q.10 एक श्रृंखला दी गई है जिसमें एक पद लुप्त है। दिए गए विकल्पों में से उस सही विकल्प को चुनिए जो श्रृंखला को पूरा करेगा।

AGMR, FLRW, KQWB, PVBG, ?

Ans

✗ 1. UBGL

✗ 2. UBHL

✗ 3. UCHL

✓ 4. UAGL

Question Type : MCQ

Question ID : 264330135593

Option 1 ID : 264330531272

Option 2 ID : 264330531274

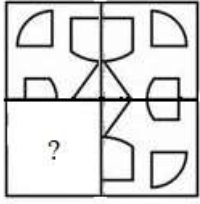
Option 3 ID : 264330531273

Option 4 ID : 264330531271

Status : Answered

Chosen Option : 4

Q.11 कौन-सी उत्तर आकृति प्रश्न आकृति में दिए गए पैटर्न को पूरा करेगी?



Ans

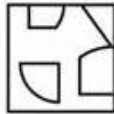
✗ 1.



✗ 2.



✓ 3.



✗ 4.



Question Type : MCQ

Question ID : 264330135614

Option 1 ID : 264330531358

Option 2 ID : 264330531357

Option 3 ID : 264330531355

Option 4 ID : 264330531356

Status : Answered

Chosen Option : 3

Q.12 उस विकल्प को चुनिए जो तीसरी संख्या से ठीक उसी तरह संबंधित है जिस तरह दूसरी संख्या पहली संख्या से संबंधित है।

104 : 13 :: 152 : ?

Ans

✗ 1. 21

✗ 2. 23

✓ 3. 19

✗ 4. 17

Question Type : MCQ

Question ID : 264330133709

Option 1 ID : 264330523861

Option 2 ID : 264330523860

Option 3 ID : 264330523862

Option 4 ID : 264330523859

Status : Answered

Chosen Option : 3

Q.13 दी गई श्रृंखला में निम्नलिखित में से कौन-सी संख्या प्रश्न चिन्ह (?) के स्थान पर आएगी?
12, 12, 14, 42, 46, 230, 236, 1652, ?

- Ans 1. 1660
 2. 1860
 3. 1720
 4. 1820

Question Type : MCQ
Question ID : 264330133707
Option 1 ID : 264330523852
Option 2 ID : 264330523854
Option 3 ID : 264330523851
Option 4 ID : 264330523853
Status : Answered
Chosen Option : 1

Q.14 यदि A का अर्थ 'जोड़', B का अर्थ 'गुणा', C का अर्थ 'घटाव' और D का अर्थ 'भाग' हो, तो निम्नलिखित समीकरण का मान क्या होगा?
4 B 12 A 18 C (72 D 6) = ?

- Ans 1. 48
 2. 60
 3. 54
 4. 63

Question Type : MCQ
Question ID : 264330137826
Option 1 ID : 264330539913
Option 2 ID : 264330539914
Option 3 ID : 264330539912
Option 4 ID : 264330539911
Status : Answered
Chosen Option : 3

Q.15 Select the option in which the numbers shares the same relationship in set as that shared by the numbers in the given set.
(NOTE: Operations should be performed on the whole numbers, without breaking down the numbers into its constituent digits. E.g.13 – Operations on 13 such as adding /subtracting /multiplying etc. to 13 can be performed. Breaking down 13 into 1 and 3 and then performing mathematical operations on 1 and 3 is not allowed)

(2, 6, 8)

(117, 351, 468)

- Ans 1. (6, 19, 25)
 2. (4, 12, 16)
 3. (5, 12, 25)
 4. (7, 14, 23)

Question Type : MCQ
Question ID : 264330135609
Option 1 ID : 264330531337
Option 2 ID : 264330531335
Option 3 ID : 264330531336
Option 4 ID : 264330531338
Status : Answered
Chosen Option : 2

Q.16 In the following question below are given some statements followed by some conclusions based on those statements. Taking the given statements to be true even if they seem to be at variance from commonly known facts. Read all the conclusions and then decide which of the given conclusion logically follows the given statements.

Statements:

I. No watch is pen.

II. All pen are green.

Conclusion:

I. Some green are pen.

II. All green are watch.

- Ans**
- 1. Neither conclusion follows
 - 2. Only conclusion I follows
 - 3. Only conclusion II follows
 - 4. Both conclusions I and II follows

Question Type : **MCQ**

Question ID : **264330135604**

Option 1 ID : **264330531318**

Option 2 ID : **264330531315**

Option 3 ID : **264330531316**

Option 4 ID : **264330531317**

Status : **Answered**

Chosen Option : **2**

Q.17 उस विकल्प आकृति को चुनिए जिसमें दी गई आकृति निहित है।(घूर्णन की अनुमति नहीं है)



Ans

✓ 1.



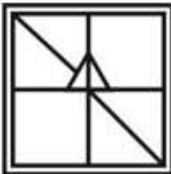
✗ 2.



✗ 3.



✗ 4.



Question Type : MCQ

Question ID : 264330138621

Option 1 ID : 264330543091

Option 2 ID : 264330543093

Option 3 ID : 264330543092

Option 4 ID : 264330543094

Status : Answered

Chosen Option : 1

Q.18 किन दो संख्याओं को आपस में बदलने पर, दिए गए समीकरण का मान '20' होगा?

$$8 \times 2 + 6 \div 3 - 7$$

Ans

✗ 1. 8 और 7

✓ 2. 2 और 3

✗ 3. 2 और 6

✗ 4. 6 और 7

Question Type : MCQ

Question ID : 264330135610

Option 1 ID : 264330531339

Option 2 ID : 264330531342

Option 3 ID : 264330531340

Option 4 ID : 264330531341

Status : Answered

Chosen Option : 2

Q.19 Six boys Ram, Sumit, Sunil, Rahul, Raj and Aman are sitting around a circular table facing towards the centre (not necessarily in the same order). Sunil is not the immediate neighbour of Aman. Aman is second to right of Ram. Rahul is second to the right of Sumit. Raj is to immediate left of Ram. Who is the immediate neighbour of Raj and Rahul both?

- Ans**
- 1. Sunil
 - 2. Ram
 - 3. Aman
 - 4. Sumit

Question Type : **MCQ**
Question ID : **264330135601**
Option 1 ID : **264330531303**
Option 2 ID : **264330531304**
Option 3 ID : **264330531305**
Option 4 ID : **264330531306**
Status : **Answered**
Chosen Option : **1**

Q.20 Price of five cars B, M, J, N and U are compared. Price of J is less than U, M and N. Price of B is the least. No two cars have the same price. Price of U is less than M. Price of neither U nor M is the highest. Price of how many cars is less than the price of U?

- Ans**
- 1. 1
 - 2. 0
 - 3. 3
 - 4. 2

Question Type : **MCQ**
Question ID : **264330135603**
Option 1 ID : **264330531314**
Option 2 ID : **264330531311**
Option 3 ID : **264330531312**
Option 4 ID : **264330531313**
Status : **Answered**
Chosen Option : **4**

Section : **General Awareness**

Q.1 वर्ष 1918 में, महात्मा गांधी ने _____ की हड़ताल का सफलतापूर्वक नेतृत्व किया।

- Ans**
- 1. व्यापारियों
 - 2. सेना के जवानों
 - 3. दलितों
 - 4. मिल मज़दूरों

Question Type : **MCQ**
Question ID : **264330138698**
Option 1 ID : **264330543401**
Option 2 ID : **264330543399**
Option 3 ID : **264330543402**
Option 4 ID : **264330543400**
Status : **Answered**
Chosen Option : **4**

Q.2 टमाटर में मुख्यतः से कौन-सा अम्ल पाया जाता है?

- Ans
- 1. कार्बनिक अम्ल (Carbonic acid)
 - 2. ऑक्सैलिक अम्ल (Oxalic acid)
 - 3. टार्टरिक अम्ल (Tartaric acid)
 - 4. ऐसीटिक अम्ल (Acetic acid)

Question Type : MCQ
Question ID : 264330134063
Option 1 ID : 264330525275
Option 2 ID : 264330525277
Option 3 ID : 264330525276
Option 4 ID : 264330525278
Status : Answered
Chosen Option : 3

Q.3 निम्न में से किस प्रसिद्ध भारतीय नर्तक का संबंध पंडवानी (Pandavani) नृत्य शैली से है?

- Ans
- 1. तीजन बाई
 - 2. वैजयंतीमाला
 - 3. पंडित बिरजू महाराज
 - 4. वेंपती चिन्ना सत्यम (Vempati Chinna Satyam)

Question Type : MCQ
Question ID : 264330135461
Option 1 ID : 264330530752
Option 2 ID : 264330530754
Option 3 ID : 264330530753
Option 4 ID : 264330530751
Status : Answered
Chosen Option : 1

Q.4 In the situation of liquidity trap, the speculative money demand function becomes _____.

- Ans
- 1. Zero
 - 2. Inelastic
 - 3. infinitely elastic
 - 4. unitary elastic

Question Type : MCQ
Question ID : 264330138931
Option 1 ID : 264330544334
Option 2 ID : 264330544333
Option 3 ID : 264330544332
Option 4 ID : 264330544331
Status : Not Answered
Chosen Option : --

Q.5 आईसीसी क्रिकेट विश्व कप (महिला) 2022 किस देश में आयोजित किया गया था?

- Ans
- ✓ 1. न्यूजीलैंड
 - ✗ 2. भारत
 - ✗ 3. ऑस्ट्रेलिया
 - ✗ 4. इंग्लैंड

Question Type : MCQ
Question ID : 264330135481
Option 1 ID : 264330530833
Option 2 ID : 264330530834
Option 3 ID : 264330530832
Option 4 ID : 264330530831
Status : Marked For Review
Chosen Option : 1

Q.6 निम्नलिखित में से कौन-सा विटामिन आयरन के अवशोषण को प्रभावित करता है?

- Ans
- ✗ 1. विटामिन डी (Vitamin D)
 - ✗ 2. विटामिन के (Vitamin K)
 - ✗ 3. विटामिन बी (Vitamin B)
 - ✓ 4. विटामिन सी (Vitamin C)

Question Type : MCQ
Question ID : 264330135465
Option 1 ID : 264330530769
Option 2 ID : 264330530770
Option 3 ID : 264330530767
Option 4 ID : 264330530768
Status : Answered
Chosen Option : 2

Q.7 2023 में पुरुष क्रिकेट विश्व कप की मेज़बानी कौन-सा देश करेगा?

- Ans
- ✗ 1. ऑस्ट्रेलिया
 - ✗ 2. पाकिस्तान
 - ✗ 3. यूनाइटेड किंगडम
 - ✓ 4. भारत

Question Type : MCQ
Question ID : 264330134079
Option 1 ID : 264330525341
Option 2 ID : 264330525342
Option 3 ID : 264330525339
Option 4 ID : 264330525340
Status : Not Answered
Chosen Option : --

Q.8 रामपुरवा बैल (Rampurva bull) जो कि बिहार के रामपुरवा में पाए गए एक मौर्य स्तंभ का हिस्सा था, को अब _____ में रखा गया है।

- Ans
- 1. संसद
 - 2. प्रधानमंत्री भवन
 - 3. राजपथ
 - 4. राष्ट्रपति भवन

Question Type : MCQ
Question ID : 264330138695
Option 1 ID : 264330543390
Option 2 ID : 264330543388
Option 3 ID : 264330543389
Option 4 ID : 264330543387
Status : Not Answered
Chosen Option : --

Q.9 'ऐस अगेस्ट ऑड्स (Ace against Odds)' _____ की एक आत्मकथात्मक पुस्तक है।

- Ans
- 1. मैरी कॉम
 - 2. सानिया मिर्ज़ा
 - 3. वी.वी. गिरि
 - 4. सचिन तेंदुलकर

Question Type : MCQ
Question ID : 264330138926
Option 1 ID : 264330544311
Option 2 ID : 264330544312
Option 3 ID : 264330544314
Option 4 ID : 264330544313
Status : Answered
Chosen Option : 2

Q.10 The constitution of India was adopted by the Constituent Assembly in the year _____.

- Ans
- 1. 1949
 - 2. 1947
 - 3. 1950
 - 4. 1948

Question Type : MCQ
Question ID : 264330135479
Option 1 ID : 264330530825
Option 2 ID : 264330530823
Option 3 ID : 264330530826
Option 4 ID : 264330530824
Status : Answered
Chosen Option : 1

Q.11 वह प्रक्रिया जिसमें धातुओं को उसके अयस्कों द्वारा गलनांक बिंदु से अधिक तपाकर निष्कर्षित किया जाता है, _____ कहलाती है।

- Ans
- 1. उत्थान
 - 2. निष्कर्षण
 - 3. प्रगलन
 - 4. कताई

Question Type : MCQ
Question ID : 264330138938
Option 1 ID : 264330544360
Option 2 ID : 264330544361
Option 3 ID : 264330544362
Option 4 ID : 264330544359
Status : Not Answered
Chosen Option : --

Q.12 Rangarajan Committee is associated with _____.

- Ans
- 1. Election reforms
 - 2. Estimation of poverty
 - 3. Environmental protection
 - 4. Educational reform

Question Type : MCQ
Question ID : 264330137031
Option 1 ID : 264330536770
Option 2 ID : 264330536768
Option 3 ID : 264330536769
Option 4 ID : 264330536767
Status : Answered
Chosen Option : 2

Q.13 _____ आधुनिक आवर्त सारणी के जनक हैं।

- Ans
- 1. अर्नेस्ट रदरफोर्ड (Ernest Rutherford)
 - 2. दिमित्री मेंडेलीव (Dmitri Mendeleev)
 - 3. जॉन न्यूलैंड (John Newland)
 - 4. जे. जे. थॉमसन (J. J. Thomson)

Question Type : MCQ
Question ID : 264330134061
Option 1 ID : 264330525267
Option 2 ID : 264330525269
Option 3 ID : 264330525270
Option 4 ID : 264330525268
Status : Not Answered
Chosen Option : --

Q.14 निम्नलिखित में से गैमी लाइफ टाइम अचीवमेंट अवार्ड प्राप्त करने वाले पहले भारतीय संगीतकार कौन थे?

- Ans
- 1. हरिप्रसाद चौरसिया
 - 2. उस्ताद ज़ाकिर हुसैन
 - 3. न्यूक्लिया
 - 4. पंडित रविशंकर

Question Type : MCQ
Question ID : 264330135477
Option 1 ID : 264330530816
Option 2 ID : 264330530817
Option 3 ID : 264330530818
Option 4 ID : 264330530815
Status : Answered
Chosen Option : 4

Q.15 छठ पूजा के त्यौहार के दौरान किस भगवान की पूजा की जाती है?

- Ans
- 1. अग्नि
 - 2. इंद्र
 - 3. विष्णु
 - 4. सूर्य

Question Type : MCQ
Question ID : 264330138675
Option 1 ID : 264330543308
Option 2 ID : 264330543307
Option 3 ID : 264330543310
Option 4 ID : 264330543309
Status : Answered
Chosen Option : 4

Q.16 भगत सिंह, सुखदेव और राजगुरु को _____ को फाँसी दी गई थी।

- Ans
- 1. मई 23, 1931
 - 2. मार्च 25, 1932
 - 3. मार्च 23, 1931
 - 4. अप्रैल 21, 1930

Question Type : MCQ
Question ID : 264330137934
Option 1 ID : 264330540343
Option 2 ID : 264330540346
Option 3 ID : 264330540344
Option 4 ID : 264330540345
Status : Not Answered
Chosen Option : --

Q.17 पृथ्वी का सबसे गहरा बिंदु, मारियाना गर्त (Mariana Trench), कहाँ स्थित है?

- Ans
- 1. अटलांटिक महासागर
 - 2. प्रशांत महासागर
 - 3. हिंद महासागर
 - 4. आर्कटिक महासागर

Question Type : MCQ
Question ID : 264330134064
Option 1 ID : 264330525280
Option 2 ID : 264330525279
Option 3 ID : 264330525281
Option 4 ID : 264330525282
Status : Not Answered
Chosen Option : --

Q.18 प्रसिद्ध धमेख स्तूप(Dhamek Stupa)निम्नलिखित में से किस राज्य में स्थित है?

- Ans
- 1. हिमाचल प्रदेश
 - 2. मध्यप्रदेश
 - 3. आंध्रप्रदेश
 - 4. उत्तरप्रदेश

Question Type : MCQ
Question ID : 264330137923
Option 1 ID : 264330540302
Option 2 ID : 264330540300
Option 3 ID : 264330540301
Option 4 ID : 264330540299
Status : Not Answered
Chosen Option : --

Q.19 किसी राज्य की विधान परिषद में, राज्य की विधान सभा में सदस्यों की कुल संख्या के _____ से अधिक नहीं होती है।

- Ans
- 1. दो तिहाई (two-third)
 - 2. एक तिहाई (one-third)
 - 3. तीन चौथाई (three-fourth)
 - 4. पाँचवें भाग (one-fifth)

Question Type : MCQ
Question ID : 264330135480
Option 1 ID : 264330530829
Option 2 ID : 264330530827
Option 3 ID : 264330530830
Option 4 ID : 264330530828
Status : Answered
Chosen Option : 2

Q.20 2022 तक, भारत के पड़ोसी देश मालदीव की राजधानी क्या है?

- Ans
- 1. कोलंबो (Colombo)
 - 2. कवरत्ती(Kavaratti)
 - 3. अबु धाबी (Abu Dhabi)
 - 4. माले (Male)

Question Type : MCQ
Question ID : 264330137956
Option 1 ID : 264330540433
Option 2 ID : 264330540432
Option 3 ID : 264330540434
Option 4 ID : 264330540431
Status : Answered
Chosen Option : 4

Q.21 भारत की मानक याम्योत्तर (82°30' E) भारत के _____ राज्य से होकर गुजरती है।

- Ans
- 1. कर्नाटक
 - 2. पंजाब
 - 3. मध्यप्रदेश
 - 4. पश्चिम बंगाल

Question Type : MCQ
Question ID : 264330135469
Option 1 ID : 264330530784
Option 2 ID : 264330530783
Option 3 ID : 264330530786
Option 4 ID : 264330530785
Status : Not Answered
Chosen Option : --

Q.22 तराइन का प्रथम युद्ध _____ के बीच लड़ा गया था।

- Ans
- 1. पृथ्वीराज चौहान और मुहम्मद बिन कासिम
 - 2. पृथ्वीराज चौहान और महमूद गजनवी
 - 3. पृथ्वीराज चौहान और कुतुबुद्दीन ऐबक
 - 4. पृथ्वीराज चौहान और मोहम्मद गौरी

Question Type : MCQ
Question ID : 264330134070
Option 1 ID : 264330525303
Option 2 ID : 264330525304
Option 3 ID : 264330525306
Option 4 ID : 264330525305
Status : Answered
Chosen Option : 4

Q.23 गर्भ के चिकित्सकीय समापन संशोधन विधेयक, 2021 (The Medical Termination of Pregnancy(MTP) (Amendment) Bill, 2021) द्वारा कुछ श्रेणियों की महिलाओं के लिए गर्भपात की ऊपरी सीमा को 20 सप्ताह से बढ़ाकर _____ सप्ताह कर दिया गया है।

- Ans
- 1. 26
 - 2. 22
 - 3. 24
 - 4. 28

Question Type : MCQ
Question ID : 264330137920
Option 1 ID : 264330540289
Option 2 ID : 264330540288
Option 3 ID : 264330540287
Option 4 ID : 264330540290
Status : Not Answered
Chosen Option : --

Q.24 Meri Policy Mere Hath scheme was launched by _____ Ministry of India in 2022.

- Ans
- 1. Social Justice & Empowerment
 - 2. Housing and Urban Affairs
 - 3. Agriculture and Farmers Welfare
 - 4. Human Resource Development

Question Type : MCQ
Question ID : 264330135459
Option 1 ID : 264330530744
Option 2 ID : 264330530745
Option 3 ID : 264330530746
Option 4 ID : 264330530743
Status : Not Answered
Chosen Option : --

Q.25 प्रसिद्ध राजस्थानी लोक नृत्यांगना गुलाबो सपेरा को _____ नृत्य के लिए जाना जाता है।

- Ans
- 1. गरबा
 - 2. बिहू
 - 3. झूमर
 - 4. कालबेलिया

Question Type : MCQ
Question ID : 264330138928
Option 1 ID : 264330544322
Option 2 ID : 264330544320
Option 3 ID : 264330544319
Option 4 ID : 264330544321
Status : Not Answered
Chosen Option : --

Q.1 Improve the underlined part of the sentence. Choose 'No improvement' as an answer if the sentence is grammatically correct.
Raccoons have being more active at night.

- Ans
- 1. are few
 - 2. are more
 - 3. are much
 - 4. No improvement

Question Type : MCQ
Question ID : 264330134505
Option 1 ID : 264330526985
Option 2 ID : 264330526983
Option 3 ID : 264330526984
Option 4 ID : 264330526986
Status : Answered
Chosen Option : 2

Q.2 Select the appropriate synonym for the underlined word.

You should never judge a person without knowing the truth.

- Ans
- 1. care
 - 2. wink
 - 3. pacify
 - 4. decide

Question Type : MCQ
Question ID : 264330135220
Option 1 ID : 264330529805
Option 2 ID : 264330529803
Option 3 ID : 264330529804
Option 4 ID : 264330529806
Status : Answered
Chosen Option : 4

Q.3 Choose the word that means the same as the given word.

Abide

- Ans
- 1. Dwell
 - 2. Decamp
 - 3. Repudiate
 - 4. Vamoose

Question Type : MCQ
Question ID : 264330136838
Option 1 ID : 264330536045
Option 2 ID : 264330536044
Option 3 ID : 264330536043
Option 4 ID : 264330536046
Status : Answered
Chosen Option : 1

Q.4 Choose the incorrectly spelt word.

- Ans**
- 1. Flowing
 - 2. Ornage
 - 3. Famous
 - 4. Leader

Question Type : **MCQ**
Question ID : **264330135226**
Option 1 ID : **264330529829**
Option 2 ID : **264330529827**
Option 3 ID : **264330529828**
Option 4 ID : **264330529830**
Status : **Answered**
Chosen Option : **2**

Q.5 Select the word segment that substitutes (replaces) the bracketed word segment correctly and completes the sentence meaningfully. Select the option 'no correction required' if the sentence is correct as given.

With a (sudden push off understanding), Harry realised who the people in the end beds must be.

- Ans**
- 1. suddenly rushed understanding
 - 2. sudden rush of understanding
 - 3. all of sudden understand
 - 4. No correction required

Question Type : **MCQ**
Question ID : **264330136388**
Option 1 ID : **264330534319**
Option 2 ID : **264330534320**
Option 3 ID : **264330534321**
Option 4 ID : **264330534322**
Status : **Answered**
Chosen Option : **2**

Q.6 Select the most appropriate antonym of the given word.

Reverence

- Ans**
- 1. Deference
 - 2. Scorn
 - 3. Honour
 - 4. Venerate

Question Type : **MCQ**
Question ID : **264330136309**
Option 1 ID : **264330534012**
Option 2 ID : **264330534011**
Option 3 ID : **264330534013**
Option 4 ID : **264330534014**
Status : **Answered**
Chosen Option : **2**

Q.7 Select the most appropriate option to fill in the blank.

The most common sports injury is a _____.

- Ans
- 1. brush
 - 2. bruise
 - 3. breve
 - 4. brews

Question Type : **MCQ**
Question ID : **264330136819**
Option 1 ID : **264330535974**
Option 2 ID : **264330535972**
Option 3 ID : **264330535971**
Option 4 ID : **264330535973**
Status : **Answered**
Chosen Option : **2**

Q.8 Improve the underlined part of the sentence. Choose 'No improvement' as an answer if the sentence is grammatically correct.

All work and none play makes Jack a dull boy.

- Ans
- 1. none plays
 - 2. no played
 - 3. no play
 - 4. No improvement

Question Type : **MCQ**
Question ID : **264330135261**
Option 1 ID : **264330529964**
Option 2 ID : **264330529963**
Option 3 ID : **264330529965**
Option 4 ID : **264330529966**
Status : **Answered**
Chosen Option : **3**

Q.9 Choose the word that can substitute the given group of words.
One who has lost one's parents

- Ans
- 1. Orphan
 - 2. Snob
 - 3. Recluse
 - 4. Martyr

Question Type : **MCQ**
Question ID : **264330134542**
Option 1 ID : **264330527126**
Option 2 ID : **264330527124**
Option 3 ID : **264330527125**
Option 4 ID : **264330527123**
Status : **Answered**
Chosen Option : **1**

Q.10 Select the appropriate antonym for the underlined word.

It was a very generous and jolly voice.

- Ans 1. morose
 2. festive
 3. tabular
 4. witty

Question Type : MCQ
Question ID : 264330135223
Option 1 ID : 264330529818
Option 2 ID : 264330529815
Option 3 ID : 264330529816
Option 4 ID : 264330529817
Status : Answered
Chosen Option : 1

Q.11 In the following question, out of the given four alternatives, select the alternative which best expresses the meaning of the Idiom/Phrase.
On the job

- Ans 1. In the war
 2. On the contrary
 3. Avoiding the work
 4. Working at a particular job

Question Type : MCQ
Question ID : 264330134548
Option 1 ID : 264330527147
Option 2 ID : 264330527150
Option 3 ID : 264330527149
Option 4 ID : 264330527148
Status : Answered
Chosen Option : 1

Q.12 Find the part of the given sentence that has an error in it. If there is no error, choose 'No error'.

Without the greenhouse effect, Earths temperature would be below freezing.

- Ans 1. No error
 2. Earths temperature would
 3. be below freezing.
 4. Without the greenhouse effect,

Question Type : MCQ
Question ID : 264330135206
Option 1 ID : 264330529754
Option 2 ID : 264330529752
Option 3 ID : 264330529753
Option 4 ID : 264330529751
Status : Answered
Chosen Option : 2

Q.13 Choose the sentence with no spelling error.

- Ans**
- 1. It is not even a concious process.
 - 2. It is not even a consciuos process.
 - 3. It is not even a conscious process.
 - 4. It is not even a conscious process.

Question Type : **MCQ**
Question ID : **264330136818**
Option 1 ID : **264330535969**
Option 2 ID : **264330535967**
Option 3 ID : **264330535968**
Option 4 ID : **264330535970**
Status : **Answered**
Chosen Option : **4**

Q.14 Find the part of the given sentence that has an error in it. If there is no error, choose 'No error'.

My research focus on marine mammal behaviour, ecology and conservation.

- Ans**
- 1. My research focus on
 - 2. marine mammal behaviour,
 - 3. ecology and conservation.
 - 4. No error

Question Type : **MCQ**
Question ID : **264330134798**
Option 1 ID : **264330528135**
Option 2 ID : **264330528136**
Option 3 ID : **264330528137**
Option 4 ID : **264330528138**
Status : **Answered**
Chosen Option : **2**

Q.15 A sentence has been given with a blank to be filled with an appropriate option. Choose the correct alternative.

I am not sure _____ wearing this black dress.

- Ans**
- 1. with
 - 2. about
 - 3. in
 - 4. off

Question Type : **MCQ**
Question ID : **264330135210**
Option 1 ID : **264330529770**
Option 2 ID : **264330529767**
Option 3 ID : **264330529769**
Option 4 ID : **264330529768**
Status : **Answered**
Chosen Option : **2**

Q.16 In the following question, out of the given four alternatives, select the alternative which best expresses the meaning of the Idiom/Phrase.

To pull the trigger

- Ans**
- 1. To do unnecessary things
 - 2. To commit a course of action
 - 3. To insult and disgrace the people
 - 4. To make an exaggerated statement

Question Type : **MCQ**
Question ID : **264330135225**
Option 1 ID : **264330529826**
Option 2 ID : **264330529824**
Option 3 ID : **264330529823**
Option 4 ID : **264330529825**
Status : **Answered**
Chosen Option : **4**

Q.17 Select the most appropriate option to fill in the blank.

Since the temperatures can soar in summer, choose clothing that is lightweight and _____.

- Ans**
- 1. hefty
 - 2. airtight
 - 3. bulky
 - 4. breathable

Question Type : **MCQ**
Question ID : **264330135229**
Option 1 ID : **264330529841**
Option 2 ID : **264330529842**
Option 3 ID : **264330529840**
Option 4 ID : **264330529839**
Status : **Answered**
Chosen Option : **4**

Q.18 Choose the word that can substitute the given group of words.

A residence for nuns

- Ans**
- 1. Monastery
 - 2. Convent
 - 3. Refugee
 - 4. Mint

Question Type : **MCQ**
Question ID : **264330135219**
Option 1 ID : **264330529802**
Option 2 ID : **264330529799**
Option 3 ID : **264330529800**
Option 4 ID : **264330529801**
Status : **Answered**
Chosen Option : **2**

Q.19 Identify the segment that contains a grammatical error. If there is no error, select 'No error'.

Professor Murli's eyebrows / rose a little higher and his / gaze became distinctly coldest.

- Ans**
- 1. rose a little higher and his
 - 2. gaze became distinctly coldest.
 - 3. No error
 - 4. Professor Murli's eyebrows

Question Type : **MCQ**
Question ID : **264330136385**
Option 1 ID : **264330534308**
Option 2 ID : **264330534309**
Option 3 ID : **264330534310**
Option 4 ID : **264330534307**
Status : **Answered**
Chosen Option : **2**

Q.20 A sentence has been given with a blank to be filled with an appropriate option. Choose the correct alternative.

_____ every nation in the world is now administering vaccines.

- Ans**
- 1. Nearest
 - 2. Near
 - 3. Nearly
 - 4. Nearer

Question Type : **MCQ**
Question ID : **264330136854**
Option 1 ID : **264330536107**
Option 2 ID : **264330536110**
Option 3 ID : **264330536108**
Option 4 ID : **264330536109**
Status : **Answered**
Chosen Option : **3**

Comprehension:

In the following passage some words have been deleted. Fill in the blanks with the help of the alternatives given. Select the most appropriate option for each number.

(1) _____ people think that we can learn a lot about the culture of a foreign country (2) _____ by living in that country. However, this is not necessarily true. Often, the longer we stay in a (3) _____ country, the more we realize how little we actually know about the culture of that country. Books and talks about other people's (4) _____ can even be dangerous because they concentrate on cultural differences and (5) _____ national character, and sometimes a lot of information they contain is untrue.

SubQuestion No : 21

Q.21 Select the most appropriate option to fill in blank number 1.

- Ans**
- 1. Many
 - 2. Each
 - 3. Few
 - 4. Every

Question Type : **MCQ**

Question ID : **264330136300**

Option 1 ID : **264330533975**

Option 2 ID : **264330533977**

Option 3 ID : **264330533976**

Option 4 ID : **264330533978**

Status : **Answered**

Chosen Option : **1**

Comprehension:

In the following passage some words have been deleted. Fill in the blanks with the help of the alternatives given. Select the most appropriate option for each number.

(1) _____ people think that we can learn a lot about the culture of a foreign country (2) _____ by living in that country. However, this is not necessarily true. Often, the longer we stay in a (3) _____ country, the more we realize how little we actually know about the culture of that country. Books and talks about other people's (4) _____ can even be dangerous because they concentrate on cultural differences and (5) _____ national character, and sometimes a lot of information they contain is untrue.

SubQuestion No : 22

Q.22 Select the most appropriate option to fill in blank number 2.

- Ans**
- 1. directly
 - 2. precisely
 - 3. simply
 - 4. formally

Question Type : **MCQ**

Question ID : **264330136301**

Option 1 ID : **264330533979**

Option 2 ID : **264330533980**

Option 3 ID : **264330533981**

Option 4 ID : **264330533982**

Status : **Answered**

Chosen Option : **3**

Comprehension:

In the following passage some words have been deleted. Fill in the blanks with the help of the alternatives given. Select the most appropriate option for each number.

(1) _____ people think that we can learn a lot about the culture of a foreign country (2) _____ by living in that country. However, this is not necessarily true. Often, the longer we stay in a (3) _____ country, the more we realize how little we actually know about the culture of that country. Books and talks about other people's (4) _____ can even be dangerous because they concentrate on cultural differences and (5) _____ national character, and sometimes a lot of information they contain is untrue.

SubQuestion No : 23

Q.23 Select the most appropriate option to fill in blank number 3.

- Ans**
- 1. foreign
 - 2. benign
 - 3. reign
 - 4. sovereign

Question Type : **MCQ**
Question ID : **264330136302**
Option 1 ID : **264330533984**
Option 2 ID : **264330533986**
Option 3 ID : **264330533985**
Option 4 ID : **264330533983**
Status : **Answered**
Chosen Option : **1**

Comprehension:

In the following passage some words have been deleted. Fill in the blanks with the help of the alternatives given. Select the most appropriate option for each number.

(1) _____ people think that we can learn a lot about the culture of a foreign country (2) _____ by living in that country. However, this is not necessarily true. Often, the longer we stay in a (3) _____ country, the more we realize how little we actually know about the culture of that country. Books and talks about other people's (4) _____ can even be dangerous because they concentrate on cultural differences and (5) _____ national character, and sometimes a lot of information they contain is untrue.

SubQuestion No : 24

Q.24 Select the most appropriate option to fill in blank number 4.

- Ans**
- 1. culture
 - 2. conjecture
 - 3. caricature
 - 4. stature

Question Type : **MCQ**
Question ID : **264330136303**
Option 1 ID : **264330533989**
Option 2 ID : **264330533987**
Option 3 ID : **264330533990**
Option 4 ID : **264330533988**
Status : **Answered**
Chosen Option : **1**

Comprehension:

In the following passage some words have been deleted. Fill in the blanks with the help of the alternatives given. Select the most appropriate option for each number.

(1) _____ people think that we can learn a lot about the culture of a foreign country (2) _____ by living in that country. However, this is not necessarily true. Often, the longer we stay in a (3) _____ country, the more we realize how little we actually know about the culture of that country. Books and talks about other people's (4) _____ can even be dangerous because they concentrate on cultural differences and (5) _____ national character, and sometimes a lot of information they contain is untrue.

SubQuestion No : 25

Q.25 Select the most appropriate option to fill in blank number 5.

- Ans**
- 1. proliferate
 - 2. concentrate
 - 3. considerate
 - 4. exaggerate

Question Type : **MCQ**

Question ID : **264330136304**

Option 1 ID : **264330533994**

Option 2 ID : **264330533993**

Option 3 ID : **264330533992**

Option 4 ID : **264330533991**

Status : **Answered**

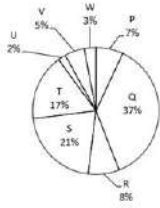
Chosen Option : **3**

Multi Tasking Non Technical Staff and Havaladar CBIC and CBN Examination 2022

Roll Number	KD Job Updates
Candidate Name	KD Job Updates
Venue Name	iON Digital Zone iDZ Chitoura Road
Exam Date	10/05/2023
Exam Time	9:00 AM - 10:30 AM
Subject	MTS Non Tech Havaladar CBIC and CBN Examination 2022

Section : Numerical and Mathematical Ability

Q.1 नीचे दिए गए वृत्त आलेख में 8 विद्यालयों में लड़कों की संख्या को दर्शाया गया है। इन सभी 8 विद्यालयों में लड़कों की कुल संख्या 8000 है। इनमें से किसी एक विशिष्ट विद्यालय में लड़कों की संख्या को इन सभी 8 विद्यालयों में लड़कों की कुल संख्या के प्रतिशत के रूप में दर्शाया गया है।



P, R, T और W में लड़कों की औसत संख्या और Q और V में लड़कों की औसत संख्या का योग कितना है?

- Ans
- 1. 1980
 - 2. 2180
 - 3. 2580
 - 4. 2380

Question Type : MCQ

Question ID : 264330137195

Option 1 ID : 264330537424

Option 2 ID : 264330537426

Option 3 ID : 264330537423

Option 4 ID : 264330537425

Status : Answered

Chosen Option : 4

Q.2 Rs.14,400 की धनराशि पर 2 वर्ष के लिए चक्रवृद्धि ब्याज और साधारण ब्याज के बीच का अंतर Rs.3600 है। ब्याज दर ज्ञात कीजिए।

- Ans
- 1. 30%
 - 2. 50%
 - 3. 35%
 - 4. 10%

Question Type : MCQ

Question ID : 264330135077

Option 1 ID : 264330529244

Option 2 ID : 264330529246

Option 3 ID : 264330529245

Option 4 ID : 264330529243

Status : Answered

Chosen Option : 2

Q.3 A अकेले किसी कार्य को 30 दिनों में कर सकता है। A ने 5 दिनों तक कार्य किया और फिर B ने अकेले शेष कार्य को 10 दिनों में पूरा किया। B अकेले पूरे कार्य को कितने दिनों में समाप्त कर सकता है?

- Ans**
- 1. 10 दिन
 - 2. 12 दिन
 - 3. 15 दिन
 - 4. 18 दिन

Question Type : **MCQ**

Question ID : **264330138051**

Option 1 ID : **264330540811**

Option 2 ID : **264330540812**

Option 3 ID : **264330540813**

Option 4 ID : **264330540814**

Status : **Answered**

Chosen Option : **2**

Q.4 स्थिर जल में एक नाव की चाल 9 km/hr है और धारा की चाल 6 km/hr है। यदि एक व्यक्ति धारा के विपरीत 45 km की दूरी तय करके प्रारंभिक बिंदु पर वापस आता है, तो उसके द्वारा लिया गया कुल समय कितना है?

- Ans**
- 1. 18 घंटे
 - 2. 24 घंटे
 - 3. 20 घंटे
 - 4. 30 घंटे

Question Type : **MCQ**

Question ID : **264330137176**

Option 1 ID : **264330537349**

Option 2 ID : **264330537348**

Option 3 ID : **264330537347**

Option 4 ID : **264330537350**

Status : **Answered**

Chosen Option : **1**

Q.5 12.6 cm आधार की त्रिज्या और 4 m ऊँचाई वाले एक बेलनाकार लोहे के पात्र का भार ज्ञात कीजिए, जहाँ 1 cm^3 लोहे का भार 2 ग्राम है?

- Ans**
- 1. 399.168 kg
 - 2. 299.284 kg
 - 3. 199.584 kg
 - 4. 499.482 kg

Question Type : **MCQ**

Question ID : **264330138056**

Option 1 ID : **264330540831**

Option 2 ID : **264330540834**

Option 3 ID : **264330540832**

Option 4 ID : **264330540833**

Status : **Answered**

Chosen Option : **1**

Q.6 $\frac{49 - 7 \times 5 + 3 \times 21}{98 + 49 \times 2 - 195}$ का मान क्या है?

- Ans
- 1. 7
 - 2. 77
 - 3. 22
 - 4. 11

Question Type : MCQ
Question ID : 264330137192
Option 1 ID : 264330537411
Option 2 ID : 264330537412
Option 3 ID : 264330537414
Option 4 ID : 264330537413
Status : Answered
Chosen Option : 2

Q.7 55 वर्षों के बाद, r प्रतिशत की दर से साधारण ब्याज पर निवेश की गई राशि स्वयं की दोगुनी हो जाती है। ' r ' का मान क्या है?

- Ans
- 1. 13/15%
 - 2. 17/20%
 - 3. 20/11%
 - 4. 11/30%

Question Type : MCQ
Question ID : 264330135402
Option 1 ID : 264330530516
Option 2 ID : 264330530517
Option 3 ID : 264330530515
Option 4 ID : 264330530518
Status : Answered
Chosen Option : 3

Q.8 एक गिलास Rs. 1378 में बेचकर एक आदमी 6 प्रतिशत का लाभ अर्जित करता है। यदि वह इसे Rs. 1079 में बेचता है, तो हानि प्रतिशत क्या होगा?

- Ans
- 1. 18 प्रतिशत
 - 2. 15 प्रतिशत
 - 3. 17 प्रतिशत
 - 4. 11 प्रतिशत

Question Type : MCQ
Question ID : 264330137182
Option 1 ID : 264330537371
Option 2 ID : 264330537373
Option 3 ID : 264330537374
Option 4 ID : 264330537372
Status : Answered
Chosen Option : 3

Q.9 एक समद्विबाहु त्रिभुज में, यदि समान भुजा और असमान भुजा का अनुपात 5:7 है और इसका परिमाण 34 cm है, तो समान भुजा की लंबाई कितनी है?

- Ans
- 1. 18 cm
 - 2. 34 cm
 - 3. 10 cm
 - 4. 14 cm

Question Type : MCQ

Question ID : 264330133854

Option 1 ID : 264330524441

Option 2 ID : 264330524442

Option 3 ID : 264330524440

Option 4 ID : 264330524439

Status : Answered

Chosen Option : 3

Q.10 A और B एक साझेदारी में इस प्रकार शामिल होते हैं कि A के निवेश का 5 गुना B के निवेश के 7 गुना के बराबर है। यदि कुल लाभ Rs. 12000 है, तो इसमें A का हिस्सा कितना है?

- Ans
- 1. Rs.6300
 - 2. Rs.7000
 - 3. Rs.8000
 - 4. Rs.7500

Question Type : MCQ

Question ID : 264330137183

Option 1 ID : 264330537375

Option 2 ID : 264330537377

Option 3 ID : 264330537378

Option 4 ID : 264330537376

Status : Answered

Chosen Option : 2

Q.11 20 कलमों का औसत मूल्य Rs.18 है। यदि 12 नई कलमें शामिल कर लिए जाएँ, तो औसत मूल्य में Rs.4 की वृद्धि हो जाती है। नई कलमों का कुल मूल्य क्या है?

- Ans
- 1. Rs.384
 - 2. Rs.368
 - 3. Rs.328
 - 4. Rs.344

Question Type : MCQ

Question ID : 264330139080

Option 1 ID : 264330544927

Option 2 ID : 264330544929

Option 3 ID : 264330544930

Option 4 ID : 264330544928

Status : Answered

Chosen Option : 4

Q.12 80 cm, 90 cm और 112 cm लम्बाइयों का लघुत्तम समापवर्त्य क्या है?

- Ans
- ✗ 1. 4840 cm
 - ✗ 2. 4250 cm
 - ✓ 3. 5040 cm
 - ✗ 4. 5680 cm

Question Type : MCQ

Question ID : 264330137191

Option 1 ID : 264330537408

Option 2 ID : 264330537407

Option 3 ID : 264330537409

Option 4 ID : 264330537410

Status : Answered

Chosen Option : 3

Q.13 निम्नलिखित तालिका में छः अलग-अलग विषयों में पाँच छात्रों द्वारा प्राप्त अंकों को दर्शाया गया है।
ईशा द्वारा कुल कितने प्रतिशत अंक प्राप्त किए गए हैं?

Students/ Subject	Hindi (Out of 100)	English (Out of 100)	Maths (Out of 150)	S.St (Out of 150)	Science (Out 150)	Computer (Out of 50)
Anchal	84	62	100	140	112	40
Bhavana	92	80	132	148	145	42
Isha	80	60	104	132	105	45
Anuradha	81	71	110	140	125	48
Manjari	78	70	108	135	130	40

Subject - विषय,

Hindi (out of 100) - हिंदी (100 में से), English (out of 100) - अंग्रेजी (100 में से),

Maths (out of 150) - गणित (150 में से), S.st (out of 150) - सामाजिक अध्ययन (150 में से),

Science (out of 150) - विज्ञान (150 में से), Computer (out of 50) - कंप्यूटर (50 में से)

Students - छात्र,

Anchal - आंचल, Bhavana - भावना, Isha - ईशा,

Anuradha - अनुराधा, Manjari - मंजरी

- Ans
- ✓ 1. 75.14%
 - ✗ 2. 72.56%
 - ✗ 3. 80.42%
 - ✗ 4. 84.66%

Question Type : MCQ

Question ID : 264330138363

Option 1 ID : 264330542061

Option 2 ID : 264330542059

Option 3 ID : 264330542060

Option 4 ID : 264330542062

Status : Answered

Chosen Option : 1

Q.14

$6 + 6 \text{ of } 6 \div 6 - \frac{6}{5}$ का मान ज्ञात कीजिए।

- Ans
- 1. 6/5
 - 2. 44/5
 - 3. 12/5
 - 4. 54/5

Question Type : MCQ

Question ID : 264330138347

Option 1 ID : 264330541996

Option 2 ID : 264330541998

Option 3 ID : 264330541997

Option 4 ID : 264330541995

Status : Answered

Chosen Option : 4

Q.15 A किसी काम को 16 दिनों में कर सकता है। B उसी काम को 24 दिनों में कर सकता है। A अकेले काम शुरू करता है। कितने दिनों के बाद B को उसके साथ शामिल हो जाना चाहिए जिससे काम 10 दिनों में समाप्त हो जाए?

- Ans
- 1. 5 दिन
 - 2. 6 दिन
 - 3. 1 दिन
 - 4. 2 दिन

Question Type : MCQ

Question ID : 264330133849

Option 1 ID : 264330524419

Option 2 ID : 264330524420

Option 3 ID : 264330524422

Option 4 ID : 264330524421

Status : Answered

Chosen Option : 3

Q.16 एक व्यक्ति के व्यय और बचत का अनुपात 4 : 3 है। उसका व्यय उसकी प्रारंभिक बचत के 1/4 से बढ़ जाता है और उसकी आय में Rs. 300 की वृद्धि होती है। यदि उसकी बचत अपरिवर्तित रहती है, तो उसका प्रारंभिक व्यय कितना है?

- Ans
- 1. Rs.20000
 - 2. Rs.12000
 - 3. Rs.1600
 - 4. Rs.10000

Question Type : MCQ

Question ID : 264330137184

Option 1 ID : 264330537381

Option 2 ID : 264330537379

Option 3 ID : 264330537382

Option 4 ID : 264330537380

Status : Answered

Chosen Option : 3

Q.17 जब किसी संख्या में 112 की वृद्धि की जाती है, तो वह स्वयं की 170% हो जाती है। वह संख्या ज्ञात कीजिए।

- Ans
- 1. 180
 - 2. 200
 - 3. 150
 - 4. 160

Question Type : MCQ

Question ID : 264330135070

Option 1 ID : 264330529217

Option 2 ID : 264330529218

Option 3 ID : 264330529215

Option 4 ID : 264330529216

Status : Answered

Chosen Option : 4

Q.18 एक दुकानदार किसी वस्तु को 20 प्रतिशत की छूट देने के बाद 10 प्रतिशत हानि पर बेचता है। वस्तु के क्रय मूल्य और अंकित मूल्य का अनुपात कितना है?

- Ans
- 1. 5 : 8
 - 2. 4 : 9
 - 3. 8 : 9
 - 4. 7 : 9

Question Type : MCQ

Question ID : 264330137187

Option 1 ID : 264330537391

Option 2 ID : 264330537394

Option 3 ID : 264330537392

Option 4 ID : 264330537393

Status : Answered

Chosen Option : 3

Q.19 रमन का 5 दिनों का औसत खर्च Rs. 160 है। यदि पहले 4 दिनों का उसका खर्च क्रमशः Rs. 90, Rs. 135, Rs. 75 और Rs. 180 है, तो 5वें दिन का उसका खर्च कितना है?

- Ans
- 1. Rs.360
 - 2. Rs.250
 - 3. Rs.320
 - 4. Rs.280

Question Type : MCQ

Question ID : 264330137177

Option 1 ID : 264330537353

Option 2 ID : 264330537351

Option 3 ID : 264330537352

Option 4 ID : 264330537354

Status : Answered

Chosen Option : 3

Q.20 सोनम ने Rs. 4675 में एक पुरानी मोटर बाइक खरीदी और उसकी मरम्मत पर Rs. 225 खर्च किए। फिर उसने इसे Rs. 5390 में बेच दिया। उसका लाभ प्रतिशत क्या है?

- Ans**
- 1. 8%
 - 2. 10%
 - 3. 15%
 - 4. 20%

Question Type : **MCQ**
Question ID : **264330138353**
Option 1 ID : **264330542020**
Option 2 ID : **264330542021**
Option 3 ID : **264330542019**
Option 4 ID : **264330542022**
Status : **Answered**
Chosen Option : **2**

Section : Reasoning Ability and Problem Solving

Q.1 उस समुच्चय को चुनिए जिसमें संख्याएँ ठीक उसी प्रकार संबंधित हैं जिस प्रकार निम्नलिखित समुच्चयों की संख्याएँ संबंधित हैं। (ध्यान दें: संख्याओं को उनके घटक अंकों में अलग-अलग किए बिना, पूर्ण संख्याओं पर संक्रियाएँ की जानी चाहिए। उदा. 13 - 13 पर संक्रियाएँ जैसे 13 को जोड़ना /घटाना /गुणा करना आदि किया जा सकता है। 13 को 1 और 3 में अलग-अलग करने की और फिर 1 और 3 पर गणितीय संक्रियाएँ करने की अनुमति नहीं है)
(6, 4, 48)
(8, 5, 80)

- Ans**
- 1. (4, 6, 36)
 - 2. (3, 7, 42)
 - 3. (5, 7, 42)
 - 4. (2, 7, 14)

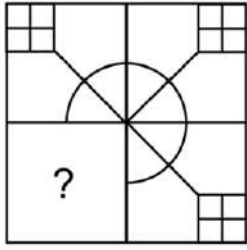
Question Type : **MCQ**
Question ID : **264330137359**
Option 1 ID : **264330538065**
Option 2 ID : **264330538063**
Option 3 ID : **264330538066**
Option 4 ID : **264330538064**
Status : **Answered**
Chosen Option : **2**

Q.2 दी गई श्रृंखला में निम्नलिखित में से कौन-सी संख्या प्रश्न चिन्ह (?) के स्थान पर आएगी?
14, 15, 30, 33, 132, 137, 822, ?

- Ans**
- 1. 829
 - 2. 982
 - 3. 819
 - 4. 899

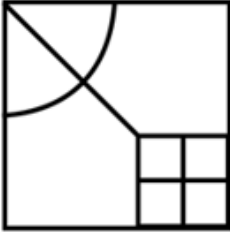
Question Type : **MCQ**
Question ID : **264330134967**
Option 1 ID : **264330528805**
Option 2 ID : **264330528803**
Option 3 ID : **264330528806**
Option 4 ID : **264330528804**
Status : **Answered**
Chosen Option : **1**

Q.3 उस विकल्प आकृति को चुनिए जो नीचे दी गई आकृति में पैटर्न को पूरा करने के लिए प्रश्न चिन्ह (?) के स्थान पर आएगी। (घूर्णन की अनुमति नहीं है)



Ans

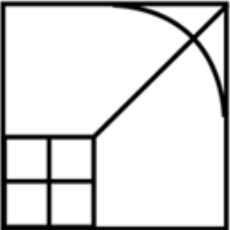
✗ 1.



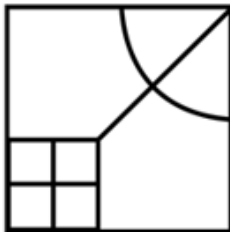
✗ 2.



✗ 3.



✓ 4.



Question Type : MCQ

Question ID : 264330137364

Option 1 ID : 264330538085

Option 2 ID : 264330538083

Option 3 ID : 264330538086

Option 4 ID : 264330538084

Status : Answered

Chosen Option : 4

Q.4 नीचे दिए गए समीकरण में कौन-से गणितीय चिन्हों को आपस में बदला जाना चाहिए जिससे यह समीकरण गणितीय रूप से सही हो जाए?

$$24 \div 15 \times 16 + 4 - 18 = 66$$

- Ans
- ✓ 1. \div और $+$
 - ✗ 2. $-$ और \times
 - ✗ 3. $-$ और $+$
 - ✗ 4. \div और \times

Question Type : MCQ

Question ID : 264330137360

Option 1 ID : 264330538068

Option 2 ID : 264330538070

Option 3 ID : 264330538069

Option 4 ID : 264330538067

Status : Answered

Chosen Option : 1

Q.5 उस विकल्प को चुनिए जो तीसरे शब्द से ठीक उसी तरह संबंधित है जिस तरह दूसरा शब्द पहले शब्द से संबंधित है।
न्यूटन : बल :: जूल : ?

- Ans
- ✗ 1. दाब
 - ✗ 2. समय
 - ✓ 3. कार्य
 - ✗ 4. संवेग

Question Type : MCQ

Question ID : 264330137345

Option 1 ID : 264330538009

Option 2 ID : 264330538007

Option 3 ID : 264330538008

Option 4 ID : 264330538010

Status : Answered

Chosen Option : 3

Q.6 दी गई श्रृंखला में निम्नलिखित में से कौन-सी संख्या प्रश्न चिन्ह (?) के स्थान पर आएगी?
19, 27, 54, 118, 243, ?

- Ans
- ✗ 1. 457
 - ✗ 2. 449
 - ✗ 3. 469
 - ✓ 4. 459

Question Type : MCQ

Question ID : 264330137357

Option 1 ID : 264330538055

Option 2 ID : 264330538057

Option 3 ID : 264330538058

Option 4 ID : 264330538056

Status : Answered

Chosen Option : 4

Q.7 P, Q, R, S और T एक बेंच पर उत्तर की ओर मुख करके बैठे हैं परंतु जरूरी नहीं कि इसी क्रम में बैठें हों। P, Q का निकटतम पड़ोसी है, S, T का निकटतम पड़ोसी है, P, R के साथ नहीं बैठा है, जो बेंच के दाएँ छोर पर बैठा है। P, S और T के दाईँ ओर बैठा है। S, T के दाईँ ओर बैठा है।
P किस स्थान पर बैठा है?

- Ans**
- 1. दाएँ से दूसरे स्थान पर
 - 2. बाएँ से तीसरे स्थान पर
 - 3. बाएँ से दूसरे स्थान पर
 - 4. बाएँ से चौथे स्थान पर

Question Type : **MCQ**
Question ID : **264330137351**
Option 1 ID : **264330538033**
Option 2 ID : **264330538032**
Option 3 ID : **264330538031**
Option 4 ID : **264330538034**
Status : **Answered**
Chosen Option : **2**

Q.8 दिए गए दो चिन्हों को आपस में बदलने पर, निम्नलिखित में से कौनसा समीकरण सही नहीं होगा?

+ और -

I. $4 \times 6 + 7 - 3 \div 1 = 21$

II. $6 \times 9 + 7 - 8 \div 2 = 51$

- Ans**
- 1. केवल I
 - 2. केवल II
 - 3. I और II दोनों
 - 4. न तो I और न ही II

Question Type : **MCQ**
Question ID : **264330135611**
Option 1 ID : **264330531343**
Option 2 ID : **264330531344**
Option 3 ID : **264330531345**
Option 4 ID : **264330531346**
Status : **Answered**
Chosen Option : **1**

Q.9 दो कथन दिए गए हैं और दो निष्कर्ष I और II दिए गए हैं। कथनों को सत्य मानते हुए, चाहे वे सामान्यतः ज्ञात तथ्यों से अलग प्रतीत होते हों, निश्चय कीजिए कि कौन-सा निष्कर्ष ताकिक रूप से कथनों के अनुसार है।

कथन:

सभी गाजर, सब्जियाँ हैं।

कुछ सब्जियाँ, नाश्ता हैं।

निष्कर्ष:

I. सभी सब्जियाँ, गाजर हैं।

II. सभी गाजर, नाश्ता हैं।

Ans

1. दोनों निष्कर्ष I और II कथनों के अनुसार हैं

2. सिर्फ निष्कर्ष II कथनों के अनुसार है

3. सिर्फ निष्कर्ष I कथनों के अनुसार है

4. निष्कर्ष I और II में से कोई भी कथनों के अनुसार नहीं है

Question Type : MCQ

Question ID : 264330137354

Option 1 ID : 264330538045

Option 2 ID : 264330538044

Option 3 ID : 264330538043

Option 4 ID : 264330538046

Status : Answered

Chosen Option : 4

Q.10 एक निश्चित कूट भाषा में, 'SHOE' को '47' लिखा जाता है। उस भाषा में 'HELMET' को कैसे लिखा जाएगा?

Ans

1. 68

2. 63

3. 83

4. 72

Question Type : MCQ

Question ID : 264330134938

Option 1 ID : 264330528688

Option 2 ID : 264330528689

Option 3 ID : 264330528690

Option 4 ID : 264330528687

Status : Answered

Chosen Option : 2

Q.11 दो कथन दिए गए हैं और दो निष्कर्ष I और II दिए गए हैं। कथनों को सत्य मानते हुए, चाहे वे सामान्यतः ज्ञात तथ्यों से अलग प्रतीत हों, निश्चय कीजिए कि कौन-सा निष्कर्ष तार्किक रूप से कथनों के अनुसार है।

कथन:

कोई प्लेट, मग नहीं है।

कुछ मग, मेज हैं।

निष्कर्ष:

I. सभी प्लेटों के मेज होने की संभावना है।

II. कुछ मेज, मग नहीं हैं।

Ans

1. केवल निष्कर्ष II कथनों के अनुसार है

2. केवल निष्कर्ष I कथनों के अनुसार है

3. दोनों निष्कर्ष I और II कथनों के अनुसार हैं

4. निष्कर्ष I और II में से कोई भी कथनों के अनुसार नहीं है

Question Type : MCQ

Question ID : 264330137355

Option 1 ID : 264330538048

Option 2 ID : 264330538047

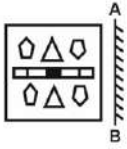
Option 3 ID : 264330538049

Option 4 ID : 264330538050

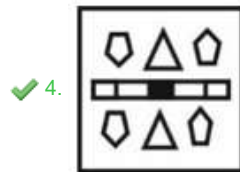
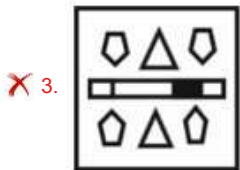
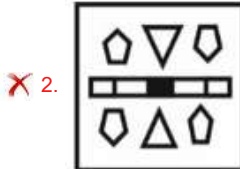
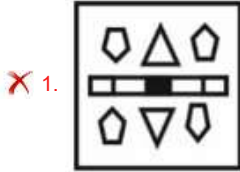
Status : Answered

Chosen Option : 4

Q.12 यदि एक दर्पण को रेखा AB पर रखा जाए, तो दी गई विकल्प आकृतियों में से कौन-सी आकृति प्रश्न आकृति का सही प्रतिबिम्ब होगी?



Ans



Question Type : MCQ

Question ID : 264330138475

Option 1 ID : 264330542507

Option 2 ID : 264330542508

Option 3 ID : 264330542510

Option 4 ID : 264330542509

Status : Answered

Chosen Option : 4

Q.13 एक निश्चित कूट भाषा में, 'TYPING' को 'VAPING' लिखा जाता है। उस भाषा में 'WIPING' को कैसे लिखा जाएगा?

Ans ✓ 1. YKPING

✗ 2. VKPGNG

✗ 3. VIPING

✗ 4. VKPJNG

Question Type : MCQ

Question ID : 264330134936

Option 1 ID : 264330528681

Option 2 ID : 264330528680

Option 3 ID : 264330528679

Option 4 ID : 264330528682

Status : Answered

Chosen Option : 1

Q.14 उस विकल्प को चुनिए जो तीसरे शब्द से ठीक उसी तरह संबंधित है जिस तरह दूसरा शब्द पहले शब्द से संबंधित है।
रतौंधी (Night blindness) : विटामिन ए :: स्कर्वी (Scurvy) : ?

- Ans
- 1. विटामिन डी (Vitamin D)
 - 2. विटामिन सी (Vitamin C)
 - 3. विटामिन के (Vitamin K)
 - 4. विटामिन ई (Vitamin E)

Question Type : MCQ

Question ID : 264330137346

Option 1 ID : 264330538012

Option 2 ID : 264330538014

Option 3 ID : 264330538013

Option 4 ID : 264330538011

Status : Answered

Chosen Option : 2

Q.15 एक निश्चित कूट भाषा में, 'DJ' को '410' लिखा जाता है। उस कूट भाषा में 'NS' को कैसे लिखा जाएगा?

- Ans
- 1. 1320
 - 2. 1420
 - 3. 1419
 - 4. 1319

Question Type : MCQ

Question ID : 264330137790

Option 1 ID : 264330539767

Option 2 ID : 264330539769

Option 3 ID : 264330539770

Option 4 ID : 264330539768

Status : Answered

Chosen Option : 3

Q.16 उस विकल्प आकृति को चुनिए जिसमें दी गई आकृति निहित है। (घूर्णन की अनुमति नहीं है)



Ans

✓ 1.



✗ 2.



✗ 3.



✗ 4.



Question Type : MCQ

Question ID : 264330138474

Option 1 ID : 264330542504

Option 2 ID : 264330542505

Option 3 ID : 264330542503

Option 4 ID : 264330542506

Status : Answered

Chosen Option : 1

Q.17 दी गई श्रृंखला में निम्नलिखित में से कौन-सा अक्षर-समूह प्रश्न चिन्ह (?) के स्थान पर आएगा?
XF, UI, RL, OO, ?

Ans ✗ 1. LS

✓ 2. LR

✗ 3. KS

✗ 4. KR

Question Type : MCQ

Question ID : 264330137343

Option 1 ID : 264330537999

Option 2 ID : 264330538000

Option 3 ID : 264330538001

Option 4 ID : 264330538002

Status : Answered

Chosen Option : 2

Q.18 उस विकल्प को चुनिए जो तीसरी संख्या से ठीक उसी प्रकार संबंधित है जिस प्रकार दूसरी संख्या पहली संख्या से संबंधित है।

441 : 9261 :: 169 : ?

Ans 1. 2197

2. 2019

3. 2719

4. 2917

Question Type : MCQ

Question ID : 264330134969

Option 1 ID : 264330528813

Option 2 ID : 264330528814

Option 3 ID : 264330528812

Option 4 ID : 264330528811

Status : Answered

Chosen Option : 1

Q.19 A, B, C, D, E, F, G, और H एक वर्गाकार मेज के चारों ओर केंद्र की ओर मुख करके बैठे हैं। उनमें से चार मेज के प्रत्येक कोने पर बैठे हैं, जबकि अन्य चार प्रत्येक भुजा के ठीक मध्य में बैठे हैं।

E जो एक भुजा के मध्य में बैठा है, G के बाईं ओर चौथे स्थान पर बैठा है। G और F के मध्य केवल एक व्यक्ति बैठा है। B, E का निकटतम पड़ोसी है। B और A के बीच केवल तीन व्यक्ति बैठे हैं। A, D का पड़ोसी नहीं है। H, C के ठीक बाईं ओर बैठा है। C, E के दाईं ओर तीसरे स्थान पर बैठा है।

D के दाईं ओर तीसरे स्थान पर कौन बैठा है?

Ans 1. G

2. B

3. H

4. C

Question Type : MCQ

Question ID : 264330137352

Option 1 ID : 264330538038

Option 2 ID : 264330538036

Option 3 ID : 264330538037

Option 4 ID : 264330538035

Status : Answered

Chosen Option : 3

Q.20 पाँच लड़कों अमन, बमन, चमन, दमन और फरहान की आयु अलग-अलग हैं। फरहान केवल अमन और बमन से बड़ा है। दमन केवल चमन से छोटा है। अमन सबसे छोटा नहीं है। कितने लड़के अमन से बड़े हैं?

Ans 1. 4

2. 3

3. 1

4. 2

Question Type : MCQ

Question ID : 264330137353

Option 1 ID : 264330538042

Option 2 ID : 264330538041

Option 3 ID : 264330538039

Option 4 ID : 264330538040

Status : Answered

Chosen Option : 2

Q.1 सन् 1867 में, केशव चन्द्र सेन ने आत्माराम पांडुरंग को _____ में प्रार्थना समाज की स्थापना करने में सहायता की थी।

- Ans
- 1. पूना
 - 2. बाँम्बे
 - 3. कलकत्ता
 - 4. चेन्नई

Question Type : MCQ
Question ID : 264330138237
Option 1 ID : 264330541556
Option 2 ID : 264330541555
Option 3 ID : 264330541557
Option 4 ID : 264330541558
Status : Not Answered
Chosen Option : --

Q.2 स्टिरेप्सिन(Steapsin) एंजाइम जो बसा को बसा अम्ल और ग्लिसरॉल में बदल देता है, _____ से स्रावित होता है।

- Ans
- 1. छोटी आँत
 - 2. बड़ी आँत
 - 3. अग्न्याशय
 - 4. आमाशय

Question Type : MCQ
Question ID : 264330137067
Option 1 ID : 264330536913
Option 2 ID : 264330536914
Option 3 ID : 264330536912
Option 4 ID : 264330536911
Status : Answered
Chosen Option : 3

Q.3 5 अप्रैल, 2022 से संघ लोक सेवा आयोग (UPSC) के अध्यक्ष कौन हैं?

- Ans
- 1. श्री भारत भूषण व्यास
 - 2. सुश्री स्मिता नागराज
 - 3. डॉ. मनोज सोनी
 - 4. डॉ. टी.सी.ए. अनंत

Question Type : MCQ
Question ID : 264330134627
Option 1 ID : 264330527465
Option 2 ID : 264330527464
Option 3 ID : 264330527463
Option 4 ID : 264330527466
Status : Answered
Chosen Option : 3

Q.4 भारतीय संविधान का अनुच्छेद _____ "संवैधानिक उपचारों के अधिकार (Right to Constitutional Remedies)" से संबंधित है।

- Ans
- ✓ 1. 32 - 35
 - ✗ 2. 22 - 25
 - ✗ 3. 28 - 33
 - ✗ 4. 25 - 30

Question Type : MCQ
Question ID : 264330137081
Option 1 ID : 264330536970
Option 2 ID : 264330536968
Option 3 ID : 264330536967
Option 4 ID : 264330536969
Status : Answered
Chosen Option : 1

Q.5 भारत सरकार द्वारा प्रधानमंत्री उज्ज्वला योजना कब शुरू की गई थी?

- Ans
- ✗ 1. 2018
 - ✗ 2. 2012
 - ✗ 3. 2014
 - ✓ 4. 2016

Question Type : MCQ
Question ID : 264330138233
Option 1 ID : 264330541542
Option 2 ID : 264330541539
Option 3 ID : 264330541541
Option 4 ID : 264330541540
Status : Answered
Chosen Option : 4

Q.6 उड़ीसा का रज पर्व (Raja Parba) त्योहार जीवंत सांस्कृतिक परंपरा और कृषि जीवन से संबंधित है। यह _____ के महीने में तीन दिनों के लिए आयोजित किया जाता है।

- Ans
- ✗ 1. जुलाई
 - ✓ 2. जून
 - ✗ 3. अगस्त
 - ✗ 4. सितंबर

Question Type : MCQ
Question ID : 264330138224
Option 1 ID : 264330541503
Option 2 ID : 264330541504
Option 3 ID : 264330541505
Option 4 ID : 264330541506
Status : Not Answered
Chosen Option : --

Q.7 2022 में लोकसभा में पारित कौन-सा विधेयक राष्ट्रीय रेल एवं परिवहन संस्थान, वड़ोदरा (एक मानित विश्वविद्यालय) को गति शक्ति विश्वविद्यालय में बदलने की मांग करता है?

- Ans
- 1. विनियोग विधेयक
 - 2. प्रतिस्पर्धा (संशोधन) विधेयक
 - 3. केंद्रीय विश्वविद्यालय (संशोधन) विधेयक
 - 4. विश्वविद्यालय कानून (संशोधन) विधेयक

Question Type : MCQ
Question ID : 264330135460
Option 1 ID : 264330530747
Option 2 ID : 264330530749
Option 3 ID : 264330530748
Option 4 ID : 264330530750
Status : Not Answered
Chosen Option : --

Q.8 निम्नलिखित में से कौन-सा बौद्ध विश्वविद्यालय भारत के बिहार में स्थित है?

- Ans
- 1. नालंदा विश्वविद्यालय
 - 2. वल्लभी विश्वविद्यालय
 - 3. नवद्वीप विश्वविद्यालय
 - 4. सोमपुरी विश्वविद्यालय

Question Type : MCQ
Question ID : 264330135463
Option 1 ID : 264330530760
Option 2 ID : 264330530762
Option 3 ID : 264330530759
Option 4 ID : 264330530761
Status : Answered
Chosen Option : 1

Q.9 "स्वराज मेरा जन्मसिद्ध अधिकार है और मैं इसे लेकर रहूँगा (Freedom is my birth right and I shall have it!)" का नारा किसने दिया था?

- Ans
- 1. लाला लाजपत राय
 - 2. बदरुद्दीन तैयबजी
 - 3. बाल गंगाधर तिलक
 - 4. बिपिन चंद्र पाल

Question Type : MCQ
Question ID : 264330134618
Option 1 ID : 264330527427
Option 2 ID : 264330527430
Option 3 ID : 264330527428
Option 4 ID : 264330527429
Status : Answered
Chosen Option : 3

Q.10 _____ species are those species of plants and animals which are found exclusively in a particular area.

- Ans
- 1. Threatened
 - 2. Critically Endangered
 - 3. Endangered
 - 4. Endemic

Question Type : MCQ
Question ID : 264330134633
Option 1 ID : 264330527487
Option 2 ID : 264330527490
Option 3 ID : 264330527489
Option 4 ID : 264330527488
Status : Answered
Chosen Option : 1

Q.11 इस प्रसिद्ध भारतीय शास्त्रीय नृत्यांगना को पहचानिए।
वह भरतनाट्यम और ओडिसी नृत्य शैली दोनों की गुरु हैं। उन्हें वर्ष 1987 में संगीत नाटक अकादमी पुरस्कार मिला।

- Ans
- 1. शोवना नारायण
 - 2. पद्मा सुब्रह्मण्यम
 - 3. मृणालिनी साराभाई
 - 4. सोनल मानसिंह

Question Type : MCQ
Question ID : 264330134626
Option 1 ID : 264330527462
Option 2 ID : 264330527459
Option 3 ID : 264330527460
Option 4 ID : 264330527461
Status : Answered
Chosen Option : 4

Q.12 राष्ट्रपति द्रौपदी मुर्मू ने एक वर्चुअल इवेंट के माध्यम से _____ तक क्षय रोग को खत्म करने के लिए 'प्रधान मंत्री टीबी मुक्त भारत अभियान (Pradhan Mantri TB Mukta Bharat Abhiyan)' और निक्षय (Nikshay) 2.0 पोर्टल लॉन्च किया है।

- Ans
- 1. 2025
 - 2. 2035
 - 3. 2028
 - 4. 2030

Question Type : MCQ
Question ID : 264330137061
Option 1 ID : 264330536890
Option 2 ID : 264330536887
Option 3 ID : 264330536888
Option 4 ID : 264330536889
Status : Answered
Chosen Option : 1

Q.13 इनमें से आनंद नीलकांतन के पहले उपन्यास का शीर्षक क्या है?

Ans 1. द इममोर्टल्स ऑफ मेलुहा (The Immortals of Meluha)

2. कादंबरी (Kadambari)

3.

असुरा: टेल ऑफ द वेंक्विष्ड (Asura: Tale of the Vanquished)

4. सत्य के प्रयोग (Satya Ke Prayog)

Question Type : MCQ

Question ID : 264330134624

Option 1 ID : 264330527452

Option 2 ID : 264330527453

Option 3 ID : 264330527451

Option 4 ID : 264330527454

Status : Answered

Chosen Option : 3

Q.14 पीएम स्ट्रीट वेंडर्स आत्मनिर्भर निधि (PM SVANidhi) योजना किस मंत्रालय द्वारा शुरू की गई थी?

Ans 1. वाणिज्य मंत्रालय

2. आवासन एवं शहरी कार्य मंत्रालय

3. उपभोक्ता मामले विभाग

4. वित्त मंत्रालय

Question Type : MCQ

Question ID : 264330134603

Option 1 ID : 264330527368

Option 2 ID : 264330527370

Option 3 ID : 264330527369

Option 4 ID : 264330527367

Status : Answered

Chosen Option : 2

Q.15 'पुंग चोलोम (Pung Cholom)' आमतौर पर धार्मिक शुभ अवसरों पर गीतों और ढोल के ताल पर किया जाता है। यह प्रसिद्ध रूप से निम्नलिखित में से किस राज्य में किया जाता है?

Ans 1. मणिपुर

2. महाराष्ट्र

3. उत्तरप्रदेश

4. केरल

Question Type : MCQ

Question ID : 264330137063

Option 1 ID : 264330536896

Option 2 ID : 264330536895

Option 3 ID : 264330536897

Option 4 ID : 264330536898

Status : Answered

Chosen Option : 1

Q.16 निम्नलिखित में से कौन-सा विषय भारतीय संविधान की राज्य सूची के अंतर्गत आता है?

- Ans
- 1. बंदरगाह
 - 2. रेलवे
 - 3. कृषि
 - 4. बैंकिंग

Question Type : MCQ
Question ID : 264330137082
Option 1 ID : 264330536974
Option 2 ID : 264330536973
Option 3 ID : 264330536971
Option 4 ID : 264330536972
Status : Answered
Chosen Option : 1

Q.17 रोपण कृषि के मुख्य क्षेत्र विश्व के _____ प्रदेशों में पाए जाते हैं।

- Ans
- 1. उष्णकटिबंधीय
 - 2. घास वाले मैदानी
 - 3. रेगिस्तानी
 - 4. शीतोष्ण

Question Type : MCQ
Question ID : 264330134611
Option 1 ID : 264330527402
Option 2 ID : 264330527399
Option 3 ID : 264330527401
Option 4 ID : 264330527400
Status : Answered
Chosen Option : 4

Q.18 2011 की जनगणना के अनुसार, भारत में लिंगानुपात कितना है?

- Ans
- 1. प्रति हजार पुरुषों पर 843 महिलाएँ
 - 2. प्रति हजार पुरुषों पर 743 महिलाएँ
 - 3. प्रति हजार पुरुषों पर 643 महिलाएँ
 - 4. प्रति हजार पुरुषों पर 943 महिलाएँ

Question Type : MCQ
Question ID : 264330135445
Option 1 ID : 264330530690
Option 2 ID : 264330530688
Option 3 ID : 264330530687
Option 4 ID : 264330530689
Status : Answered
Chosen Option : 4

Q.19 According to census 2011, which state has highest decadal population growth rate between 2001 – 11?

- Ans
- 1. Bihar
 - 2. Arunachal Pradesh
 - 3. Mizoram
 - 4. Meghalaya

Question Type : MCQ
Question ID : 264330134613
Option 1 ID : 264330527408
Option 2 ID : 264330527409
Option 3 ID : 264330527410
Option 4 ID : 264330527407
Status : Answered
Chosen Option : 4

Q.20 निम्नलिखित में से कौन वाद्य यंत्र 'सरोद (Sarod)' बजाने के लिए प्रसिद्ध है?

- Ans
- 1. रवि शंकर
 - 2. बिस्मिल्लाह खान
 - 3. अमज़द अली खान
 - 4. जाकिर हुसैन

Question Type : MCQ
Question ID : 264330137079
Option 1 ID : 264330536960
Option 2 ID : 264330536961
Option 3 ID : 264330536959
Option 4 ID : 264330536962
Status : Answered
Chosen Option : 3

Q.21 _____ अंतर्राष्ट्रीय क्रिकेट परिषद (ICC) पुरुष क्रिकेट विश्व कप 2023 की मेज़बानी करेगा।

- Ans
- 1. भारत
 - 2. पाकिस्तान
 - 3. इंग्लैंड
 - 4. न्यूज़ीलैंड

Question Type : MCQ
Question ID : 264330137083
Option 1 ID : 264330536978
Option 2 ID : 264330536977
Option 3 ID : 264330536975
Option 4 ID : 264330536976
Status : Answered
Chosen Option : 1

Q.22 तराइन का प्रथम युद्ध कब लड़ा गया था?

- Ans
- 1. 1215
 - 2. 1208
 - 3. 1182
 - 4. 1191

Question Type : MCQ
Question ID : 264330138234
Option 1 ID : 264330541543
Option 2 ID : 264330541546
Option 3 ID : 264330541545
Option 4 ID : 264330541544
Status : Answered
Chosen Option : 4

Q.23 किस अधिनियम के परिणामस्वरूप, महारानी विक्टोरिया, जो ब्रिटेन की शासक थीं, 1858 में "भारत की मलिका (Empress of India)" की उपाधि के साथ भारत में ब्रिटिश क्षेत्रों की संप्रभु भी बन गईं?

- Ans
- 1. भारत सरकार अधिनियम
 - 2. नियामक अधिनियम
 - 3. भारतीय परिषद अधिनियम
 - 4. चार्टर एक्ट

Question Type : MCQ
Question ID : 264330135474
Option 1 ID : 264330530805
Option 2 ID : 264330530806
Option 3 ID : 264330530804
Option 4 ID : 264330530803
Status : Answered
Chosen Option : 1

Q.24 इंग्लिश ईस्ट इंडिया कंपनी ने वर्ष _____ में बंगाल की दीवानी प्राप्त की।

- Ans
- 1. 1770
 - 2. 1765
 - 3. 1760
 - 4. 1755

Question Type : MCQ
Question ID : 264330134642
Option 1 ID : 264330527526
Option 2 ID : 264330527525
Option 3 ID : 264330527524
Option 4 ID : 264330527523
Status : Not Answered
Chosen Option : --

Q.25 प्रसिद्ध हीराकुद (Hirakud) कैप्टिव थर्मल पावर प्लांट निम्नलिखित में से किस राज्य में स्थित है?

- Ans
- 1. गुजरात
 - 2. तमिलनाडु
 - 3. उड़ीसा
 - 4. आंध्रप्रदेश

Question Type : MCQ
Question ID : 264330137071
Option 1 ID : 264330536928
Option 2 ID : 264330536930
Option 3 ID : 264330536927
Option 4 ID : 264330536929
Status : Answered
Chosen Option : 3

Section : English Language and Comprehension

Q.1 Identify the segment that contains a grammatical error. If there is no error, select 'No error'.

Early, during December 2021, / Lal was appointed as / the Secretary to the Lokpal.

- Ans
- 1. Early, during December 2021,
 - 2. Lal was appointed as
 - 3. No error
 - 4. the Secretary to the Lokpal.

Question Type : MCQ
Question ID : 264330136588
Option 1 ID : 264330535083
Option 2 ID : 264330535084
Option 3 ID : 264330535086
Option 4 ID : 264330535085
Status : Answered
Chosen Option : 4

Q.2 Improve the underlined part of the sentence. Choose 'No improvement' as an answer if the sentence is grammatically correct.

Each passenger is allows one piece of carry-on luggage.

- Ans
- 1. No improvement
 - 2. is allowed
 - 3. is allow
 - 4. is allowing

Question Type : MCQ
Question ID : 264330134722
Option 1 ID : 264330527846
Option 2 ID : 264330527843
Option 3 ID : 264330527845
Option 4 ID : 264330527844
Status : Answered
Chosen Option : 4

Q.3 Fill in the blank with the most appropriate option.

For months, Drupad could not taste anything he ate as regret layered _____ mud.

- Ans**
- 1. his mouth like
 - 2. his mouth comparable to
 - 3. his mouth as though
 - 4. his mouth allied to

Question Type : **MCQ**
Question ID : **264330136646**
Option 1 ID : **264330535308**
Option 2 ID : **264330535309**
Option 3 ID : **264330535307**
Option 4 ID : **264330535310**
Status : **Not Answered**
Chosen Option : --

Q.4 Fill in the blank with the most appropriate choice.

During treatment, patients lay _____ on the treatment couch for around 3 hrs.

- Ans**
- 1. repine
 - 2. alpine
 - 3. supine
 - 4. arsine

Question Type : **MCQ**
Question ID : **264330135773**
Option 1 ID : **264330531971**
Option 2 ID : **264330531973**
Option 3 ID : **264330531972**
Option 4 ID : **264330531974**
Status : **Answered**
Chosen Option : **3**

Q.5 Choose the word that can substitute the given group of words.

The flowers of a particular region

- Ans**
- 1. Bryophyte
 - 2. Flora
 - 3. Fauna
 - 4. Bovine

Question Type : **MCQ**
Question ID : **264330134759**
Option 1 ID : **264330527985**
Option 2 ID : **264330527984**
Option 3 ID : **264330527986**
Option 4 ID : **264330527983**
Status : **Answered**
Chosen Option : **2**

Q.6 Fill in the blank with the most appropriate choice

This _____ piece of mischief by his brother brought a quiet laugh from David.

- Ans**
- 1. vesical
 - 2. classical
 - 3. whimsical
 - 4. nonsensical

Question Type : **MCQ**
Question ID : **264330135792**
Option 1 ID : **264330532046**
Option 2 ID : **264330532045**
Option 3 ID : **264330532044**
Option 4 ID : **264330532043**
Status : **Answered**
Chosen Option : **4**

Q.7 Select the word segment that substitutes (replaces) the bracketed word segment correctly and completes the sentence meaningfully. Select the option 'no correction required' if the sentence is correct as given.

He (returned back) Cambridge shortly before three o'clock.

- Ans**
- 1. appeared
 - 2. showed
 - 3. No correction required
 - 4. reached

Question Type : **MCQ**
Question ID : **264330136591**
Option 1 ID : **264330535095**
Option 2 ID : **264330535096**
Option 3 ID : **264330535098**
Option 4 ID : **264330535097**
Status : **Answered**
Chosen Option : **4**

Q.8 Select the word from the options which is similar in meaning to the bracketed part given in the sentence below.

I suppose I was looking for (a work that would give me income) and that was going to be an adventure.

- Ans**
- 1. Calling
 - 2. Activity
 - 3. Occupation
 - 4. Pursuit

Question Type : **MCQ**
Question ID : **264330136630**
Option 1 ID : **264330535244**
Option 2 ID : **264330535243**
Option 3 ID : **264330535245**
Option 4 ID : **264330535246**
Status : **Answered**
Chosen Option : **3**

Q.9 Find the part of the given sentence that has an error in it. If there is no error, choose 'No error'.

Neither I nor my friends are going too walk down that street.

- Ans**
- 1. down that street.
 - 2. Neither I nor my
 - 3. friends are going too walk
 - 4. No error

Question Type : **MCQ**

Question ID : **264330134502**

Option 1 ID : **264330526973**

Option 2 ID : **264330526971**

Option 3 ID : **264330526972**

Option 4 ID : **264330526974**

Status : **Answered**

Chosen Option : **3**

Q.10 Select the correctly spelt word.

- Ans**
- 1. Concensus
 - 2. Concencus
 - 3. Consensus
 - 4. Consensus

Question Type : **MCQ**

Question ID : **264330135789**

Option 1 ID : **264330532034**

Option 2 ID : **264330532032**

Option 3 ID : **264330532033**

Option 4 ID : **264330532031**

Status : **Answered**

Chosen Option : **1**

Q.11 In the following question, out of the given four alternatives, select the alternative which best expresses the meaning of the Idiom/Phrase.

The life and soul of the party

- Ans**
- 1. Person who brings lots of energy to the party
 - 2. A person who brings lots of gifts
 - 3. The only person who dances in the party
 - 4. Chief guest of the party

Question Type : **MCQ**

Question ID : **264330134765**

Option 1 ID : **264330528007**

Option 2 ID : **264330528010**

Option 3 ID : **264330528009**

Option 4 ID : **264330528008**

Status : **Answered**

Chosen Option : **4**

Q.12 Identify the segment that contains a grammatical error. If there is no error, select 'No error'
In 79 A.D., the Mount Vesuvius blew / its top, burying the ancient / cities of Pompeii and Herculaneum.

- Ans**
- 1. cities of Pompeii and Herculaneum.
 - 2. its top, burying the ancient
 - 3. In 79 A.D., the Mount Vesuvius blew
 - 4. No Error

Question Type : **MCQ**
Question ID : **264330135769**
Option 1 ID : **264330531957**
Option 2 ID : **264330531956**
Option 3 ID : **264330531955**
Option 4 ID : **264330531958**
Status : **Not Answered**
Chosen Option : --

Q.13 Choose the word that is opposite in meaning to the given word.

Malign

- Ans**
- 1. Align
 - 2. Cheerful
 - 3. Harangue
 - 4. Praise

Question Type : **MCQ**
Question ID : **264330135222**
Option 1 ID : **264330529811**
Option 2 ID : **264330529812**
Option 3 ID : **264330529814**
Option 4 ID : **264330529813**
Status : **Answered**
Chosen Option : **2**

Q.14 Select the most appropriate word for the given group of words.
A local meeting of party members to select candidates, elect convention delegates, etc

- Ans**
- 1. Claque
 - 2. Caravan
 - 3. Clique
 - 4. Caucus

Question Type : **MCQ**
Question ID : **264330135782**
Option 1 ID : **264330532005**
Option 2 ID : **264330532004**
Option 3 ID : **264330532006**
Option 4 ID : **264330532003**
Status : **Not Answered**
Chosen Option : --

Q.15 Select the most appropriate synonym of the given word.

Console

- Ans** 1. Solace
 2. Arteriole
 3. Fret
 4. Torment

Question Type : **MCQ**
Question ID : **264330135783**
Option 1 ID : **264330532008**
Option 2 ID : **264330532007**
Option 3 ID : **264330532009**
Option 4 ID : **264330532010**
Status : **Answered**
Chosen Option : **1**

Q.16 Four sentences are given, out of which three have spelling errors. Choose the sentence with all correct spelt words.

- Ans** 1.
You could have seen in them a cemetery or a war memorial.
 2. The main problem, I beleive, lies elsewhere.
 3. Jerry is an amatuer who dances because he feels like it.
 4. He said the goverment remained committed to peace.

Question Type : **MCQ**
Question ID : **264330136610**
Option 1 ID : **264330535169**
Option 2 ID : **264330535168**
Option 3 ID : **264330535167**
Option 4 ID : **264330535170**
Status : **Answered**
Chosen Option : **1**

Q.17 Fill in the blank with the most appropriate option.

This change is responsible for a recent _____ the number of cases of cancer in this age group.

- Ans** 1. rise at
 2. rise in
 3. rise of
 4. rise to

Question Type : **MCQ**
Question ID : **264330136611**
Option 1 ID : **264330535173**
Option 2 ID : **264330535172**
Option 3 ID : **264330535171**
Option 4 ID : **264330535174**
Status : **Answered**
Chosen Option : **2**

Q.18 Select the most appropriate meaning of the bracketed idiom in the given sentence.
Later, Brooks' brother alleged that racism helped put the (pedal to the metal).

- Ans**
- 1. Very excessive
 - 2. To go full speed, especially while driving a vehicle
 - 3. Avoid responsibility by giving it to someone else
 - 4. To enjoy yourself by going out

Question Type : **MCQ**
Question ID : **264330135788**
Option 1 ID : **264330532028**
Option 2 ID : **264330532030**
Option 3 ID : **264330532027**
Option 4 ID : **264330532029**
Status : **Answered**
Chosen Option : **3**

Q.19 Select the most appropriate option to substitute the bracketed segment in the given sentence. If there is no need to substitute it, select 'no substitution required'.
(In fact, climbing fern is spreading so rapidly that its) now the state's worst invasive weed.

- Ans**
- 1. No substitution required
 - 2. In fact, climbing fern is spreading so rapidly that it's
 - 3. In fact, climbing fern is spread so rapidly that its
 - 4. In fact, climbing fern is spreading so rapid that it's

Question Type : **MCQ**
Question ID : **264330135798**
Option 1 ID : **264330532070**
Option 2 ID : **264330532068**
Option 3 ID : **264330532069**
Option 4 ID : **264330532067**
Status : **Answered**
Chosen Option : **2**

Q.20 Select the most appropriate antonym to substitute the (bracketed) word in the given sentence.
It would effectively rouse people's ardour to invest, and help to (discourage) the transfer of capital abroad.

- Ans**
- 1. Intolerable
 - 2. Persuade
 - 3. Industrious
 - 4. Construe

Question Type : **MCQ**
Question ID : **264330135786**
Option 1 ID : **264330532020**
Option 2 ID : **264330532019**
Option 3 ID : **264330532022**
Option 4 ID : **264330532021**
Status : **Answered**
Chosen Option : **2**

Comprehension:

In the following passage some of the words have been deleted. Read the passage carefully and select the correct answer for the given blank out of the four alternatives.

Intriguingly, those who (1) _____ the probiotic diet reported they felt less stressed compared (2) _____ those who followed the control diet. There was also a direct correlation between how strictly (3) _____ followed the diet and their perceived stress levels, with those who (4) _____ more probiotic foods during the four-week period reporting the (5) _____ reduction in perceived stress levels.

SubQuestion No : 21

Q.21 Select the most appropriate option to fill in blank number 1.

- Ans**
- 1. believed
 - 2. casted
 - 3. followed
 - 4. bellowed

Question Type : **MCQ**

Question ID : **264330135213**

Option 1 ID : **264330529776**

Option 2 ID : **264330529778**

Option 3 ID : **264330529775**

Option 4 ID : **264330529777**

Status : **Answered**

Chosen Option : **3**

Comprehension:

In the following passage some of the words have been deleted. Read the passage carefully and select the correct answer for the given blank out of the four alternatives.

Intriguingly, those who (1) _____ the probiotic diet reported they felt less stressed compared (2) _____ those who followed the control diet. There was also a direct correlation between how strictly (3) _____ followed the diet and their perceived stress levels, with those who (4) _____ more probiotic foods during the four-week period reporting the (5) _____ reduction in perceived stress levels.

SubQuestion No : 22

Q.22 Select the most appropriate option to fill in blank number 2.

- Ans**
- 1. of
 - 2. with
 - 3. on
 - 4. by

Question Type : **MCQ**

Question ID : **264330135214**

Option 1 ID : **264330529781**

Option 2 ID : **264330529780**

Option 3 ID : **264330529779**

Option 4 ID : **264330529782**

Status : **Not Answered**

Chosen Option : **--**

Comprehension:

In the following passage some of the words have been deleted. Read the passage carefully and select the correct answer for the given blank out of the four alternatives.

Intriguingly, those who (1) _____ the psychobiotic diet reported they felt less stressed compared (2) _____ those who followed the control diet. There was also a direct correlation between how strictly (3) _____ followed the diet and their perceived stress levels, with those who (4) _____ more psychobiotic foods during the four-week period reporting the (5) _____ reduction in perceived stress levels.

SubQuestion No : 23

Q.23 Select the most appropriate option to fill in blank number 3.

- Ans
- 1. nomads
 - 2. spectators
 - 3. animals
 - 4. participants

Question Type : **MCQ**

Question ID : **264330135215**

Option 1 ID : **264330529783**

Option 2 ID : **264330529785**

Option 3 ID : **264330529784**

Option 4 ID : **264330529786**

Status : **Answered**

Chosen Option : **4**

Comprehension:

In the following passage some of the words have been deleted. Read the passage carefully and select the correct answer for the given blank out of the four alternatives.

Intriguingly, those who (1) _____ the psychobiotic diet reported they felt less stressed compared (2) _____ those who followed the control diet. There was also a direct correlation between how strictly (3) _____ followed the diet and their perceived stress levels, with those who (4) _____ more psychobiotic foods during the four-week period reporting the (5) _____ reduction in perceived stress levels.

SubQuestion No : 24

Q.24 Select the most appropriate option to fill in blank number 4.

- Ans
- 1. staked
 - 2. raked
 - 3. ate
 - 4. eroded

Question Type : **MCQ**

Question ID : **264330135216**

Option 1 ID : **264330529789**

Option 2 ID : **264330529788**

Option 3 ID : **264330529790**

Option 4 ID : **264330529787**

Status : **Answered**

Chosen Option : **3**

Comprehension:

In the following passage some of the words have been deleted. Read the passage carefully and select the correct answer for the given blank out of the four alternatives.

Intriguingly, those who (1) _____ the probiotic diet reported they felt less stressed compared (2) _____ those who followed the control diet. There was also a direct correlation between how strictly (3) _____ followed the diet and their perceived stress levels, with those who (4) _____ more probiotic foods during the four-week period reporting the (5) _____ reduction in perceived stress levels.

SubQuestion No : 25

Q.25 Select the most appropriate option to fill in blank number 5.

- Ans**
- 1. greater
 - 2. greatest
 - 3. greatly
 - 4. great

Question Type : **MCQ**

Question ID : **264330135217**

Option 1 ID : **264330529792**

Option 2 ID : **264330529793**

Option 3 ID : **264330529794**

Option 4 ID : **264330529791**

Status : **Answered**

Chosen Option : **2**

Multi Tasking Non Technical Staff and Havaladar CBIC and CBN Examination 2022

Roll Number	KD Job Updates
Candidate Name	KD Job Updates
Venue Name	iON Digital Zone iDZ Arrah
Exam Date	10/05/2023
Exam Time	12:00 PM - 2:00 PM
Subject	MTS Non Tech Havaladar CBIC and CBN Examination 2022

Section : Numerical and Mathematical Ability

Q.1 $\frac{56}{7} \times \left(\frac{24}{81} \times \frac{729}{72} \right) + \frac{42}{6}$ का मान क्या है?

Ans 1. 33

2. 32

3. 31

4. 30

Question Type : MCQ

Question ID : 264330139072

Option 1 ID : 264330544895

Option 2 ID : 264330544898

Option 3 ID : 264330544897

Option 4 ID : 264330544896

Status : Answered

Chosen Option : 3

Q.2 12 श्रमिक 10 दिनों में Rs. 2400 कमा सकते हैं। 6 श्रमिकों की 6 दिनों की आय ज्ञात कीजिए।

Ans 1. Rs. 720

2. Rs. 840

3. Rs. 510

4. Rs. 630

Question Type : MCQ

Question ID : 264330133769

Option 1 ID : 264330524100

Option 2 ID : 264330524099

Option 3 ID : 264330524102

Option 4 ID : 264330524101

Status : Marked For Review

Chosen Option : 1

Q.3 9 लड़के और 12 पुरुष एक काम को 24 दिनों में पूरा कर सकते हैं। प्रत्येक लड़का काम को पूरा करने में एक पुरुष द्वारा लिए गए समय से तीन गुना समय लेता है। 15 पुरुष उसी काम को कितने दिनों में पूरा करेंगे?

- Ans
- ✗ 1. 26 दिन
 - ✗ 2. 22 दिन
 - ✓ 3. 24 दिन
 - ✗ 4. 30 दिन

Question Type : MCQ

Question ID : 264330137646

Option 1 ID : 264330539192

Option 2 ID : 264330539191

Option 3 ID : 264330539193

Option 4 ID : 264330539194

Status : Answered

Chosen Option : 3

Q.4 निम्न तालिका में एक शॉपिंग ऐप द्वारा 3 वर्षों में बेचे गए उत्पादों को दर्शाया गया है। सभी तीन वर्षों में ऐप द्वारा बेचे गए कपड़ों की औसत संख्या ज्ञात कीजिए।

Products	2019	2020	2021
Cloth	824	476	500
Electronics	750	820	450
Makeup	660	810	510
Footwear	470	390	790

Products = उत्पाद, Cloth = कपड़े, Electronics = इलेक्ट्रॉनिक्स, Makeup = मेकअप, Footwear = फुटवेयर

- Ans
- ✗ 1. 450
 - ✗ 2. 740
 - ✓ 3. 600
 - ✗ 4. 530

Question Type : MCQ

Question ID : 264330135407

Option 1 ID : 264330530538

Option 2 ID : 264330530535

Option 3 ID : 264330530537

Option 4 ID : 264330530536

Status : Answered

Chosen Option : 3

Q.5 उस पतंग का क्षेत्रफल ज्ञात कीजिए जिसके विकर्ण 22 cm और 6 cm हैं।

- Ans
- ✗ 1. 50 cm²
 - ✓ 2. 66 cm²
 - ✗ 3. 100 cm²
 - ✗ 4. 88 cm²

Question Type : MCQ

Question ID : 264330133774

Option 1 ID : 264330524122

Option 2 ID : 264330524119

Option 3 ID : 264330524121

Option 4 ID : 264330524120

Status : Answered

Chosen Option : 2

Q.6 1000 मीटर लंबी एक रेलगाड़ी 72 km/hr की चाल से चल रही है। यदि यह एक पुल को 85 सेकंड में पार करती है, तो पुल की लंबाई कितनी है?

- Ans**
- ✓ 1. 700 मीटर
 - ✗ 2. 800 मीटर
 - ✗ 3. 750 मीटर
 - ✗ 4. 950 मीटर

Question Type : **MCQ**

Question ID : **264330137667**

Option 1 ID : **264330539275**

Option 2 ID : **264330539276**

Option 3 ID : **264330539277**

Option 4 ID : **264330539278**

Status : **Answered**

Chosen Option : **1**

Q.7 एक वस्तु का अंकित मूल्य उसके क्रय मूल्य का 150 प्रतिशत है। यदि 30 प्रतिशत की छूट दी जाती है, तो लाभ प्रतिशत क्या होगा?

- Ans**
- ✗ 1. 6 प्रतिशत
 - ✓ 2. 5 प्रतिशत
 - ✗ 3. 3 प्रतिशत
 - ✗ 4. 4 प्रतिशत

Question Type : **MCQ**

Question ID : **264330137677**

Option 1 ID : **264330539317**

Option 2 ID : **264330539315**

Option 3 ID : **264330539318**

Option 4 ID : **264330539316**

Status : **Answered**

Chosen Option : **2**

Q.8 4 संख्याओं का औसत 45 है। पहली दो संख्याओं का औसत अन्य दो संख्याओं के औसत का तीन गुना है। पहली दो संख्याओं का योग क्या है?

- Ans**
- ✗ 1. 105
 - ✗ 2. 125
 - ✗ 3. 122
 - ✓ 4. 135

Question Type : **MCQ**

Question ID : **264330137668**

Option 1 ID : **264330539280**

Option 2 ID : **264330539279**

Option 3 ID : **264330539281**

Option 4 ID : **264330539282**

Status : **Marked For Review**

Chosen Option : **4**

Q.9 एक जार में दूध और पानी का मिश्रण है, जिसमें 50% पानी है। इस मिश्रण के एक अंश/भाग को एक दूसरे मिश्रण, जिसमें 29% पानी है, से बदल दिया जाता है। अब जार में पानी का प्रतिशत 36% हो जाता है। मूल मिश्रण का कितना अंश/भाग बदला गया था?

Ans

✓ 1. $\frac{2}{3}$

✗ 2. $\frac{4}{5}$

✗ 3. $\frac{3}{2}$

✗ 4. $\frac{1}{3}$

Question Type : MCQ

Question ID : 264330135090

Option 1 ID : 264330529295

Option 2 ID : 264330529298

Option 3 ID : 264330529296

Option 4 ID : 264330529297

Status : Answered

Chosen Option : 2

Q.10 तीन कर्षों में दूध और पानी का मिश्रण 4:5, 5:6, 9:7 के अनुपात में है। पहले कप से 36 लीटर और दूसरे कप से 44 लीटर मात्रा ली जाती है। तीसरे कप से कितनी मात्रा ली जाए कि तीनों कर्षों के अंतिम मिश्रण में दूध और पानी का अनुपात 1 : 1 हो?

Ans

✓ 1. 64 लीटर

✗ 2. 60 लीटर

✗ 3. 54 लीटर

✗ 4. 32 लीटर

Question Type : MCQ

Question ID : 264330137674

Option 1 ID : 264330539304

Option 2 ID : 264330539303

Option 3 ID : 264330539305

Option 4 ID : 264330539306

Status : Answered

Chosen Option : 1

Q.11 साधारण ब्याज पर एक धनराशि 2 वर्ष में Rs. 212 और 4 वर्ष में Rs. 224 हो जाती है। वह धनराशि है:

Ans

✗ 1. Rs. 100

✓ 2. Rs. 200

✗ 3. Rs. 400

✗ 4. Rs. 500

Question Type : MCQ

Question ID : 264330133846

Option 1 ID : 264330524409

Option 2 ID : 264330524408

Option 3 ID : 264330524407

Option 4 ID : 264330524410

Status : Answered

Chosen Option : 2

Q.12 वह सबसे छोटी पूर्ण वर्ग संख्या कौन-सी है जो 14, 84 और 28 में से प्रत्येक से पूर्णतः विभाज्य है?

- Ans 1. 7056
 2. 1764
 3. 441
 4. 3528

Question Type : MCQ

Question ID : 264330137680

Option 1 ID : 264330539328

Option 2 ID : 264330539330

Option 3 ID : 264330539327

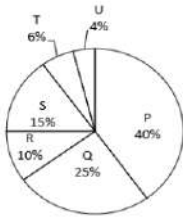
Option 4 ID : 264330539329

Status : Marked For Review

Chosen Option : 4

Q.13 नीचे दिए गए वृत्त आलेख में एक वर्ष में छः कंपनियों द्वारा बेचे गए मोबाइल फोन की संख्या को दर्शाया गया है।

छः कंपनियों द्वारा बेचे गए कुल मोबाइल फोन की संख्या 300 है। इनमें से किसी एक विशिष्ट कंपनी द्वारा बेचे गए मोबाइल फोन की संख्या को इन सभी छः कंपनियों द्वारा बेचे गए मोबाइल फोन की कुल संख्या के प्रतिशत के रूप में दर्शाया गया है।



Q और S द्वारा बेचे गए मोबाइल फोन की औसत संख्या कितनी है?

- Ans 1. 45
 2. 80
 3. 60
 4. 75

Question Type : MCQ

Question ID : 264330137684

Option 1 ID : 264330539346

Option 2 ID : 264330539343

Option 3 ID : 264330539344

Option 4 ID : 264330539345

Status : Answered

Chosen Option : 3

Q.14 यदि $p : q = 4 : 7$ और $q : r = 3 : 5$ है, तो $2p : 3q : 5r$ का मान क्या है?

- Ans
- 1. 36 : 60 : 181
 - 2. 24 : 63 : 175
 - 3. 25 : 72 : 180
 - 4. 28 : 79 : 188

Question Type : MCQ
Question ID : 264330137673
Option 1 ID : 264330539301
Option 2 ID : 264330539300
Option 3 ID : 264330539302
Option 4 ID : 264330539299
Status : Answered
Chosen Option : 2

Q.15 Rs. x पर 25% वार्षिक दर पर 2 वर्ष के लिए चक्रवृद्धि ब्याज और साधारण ब्याज के बीच का अंतर Rs. 325 है। x का मान ज्ञात कीजिए।

- Ans
- 1. Rs. 5300
 - 2. Rs. 2400
 - 3. Rs. 5200
 - 4. Rs. 4000

Question Type : MCQ
Question ID : 264330138381
Option 1 ID : 264330542131
Option 2 ID : 264330542133
Option 3 ID : 264330542132
Option 4 ID : 264330542134
Status : Answered
Chosen Option : 3

Q.16 $(22)^2 - (14)^2 - 207$ का मान ज्ञात कीजिए:

- Ans
- 1. 81
 - 2. 77
 - 3. 97
 - 4. 99

Question Type : MCQ
Question ID : 264330135391
Option 1 ID : 264330530472
Option 2 ID : 264330530471
Option 3 ID : 264330530474
Option 4 ID : 264330530473
Status : Answered
Chosen Option : 1

Q.17 40 छड़ियों की औसत ऊँचाई 156 cm है। 162 cm औसत ऊँचाई की कुछ छड़ियों को निकाल दिया जाता है। यदि छड़ियों की नई औसत ऊँचाई 150 cm है, तो कितनी छड़ियाँ शेष बची हैं?

- Ans
- 1. 16
 - 2. 20
 - 3. 25
 - 4. 32

Question Type : MCQ

Question ID : 264330137878

Option 1 ID : 264330540122

Option 2 ID : 264330540120

Option 3 ID : 264330540119

Option 4 ID : 264330540121

Status : Answered

Chosen Option : 2

Q.18 Rs. 10000 क्रय मूल्य वाले एक खराब डाइनिंग सेट को 10% हानि पर बेचा जा रहा है। यदि मूल्य में क्रमशः 5% की कमी और की जाती है, तो डाइनिंग सेट का विक्रय मूल्य है:

- Ans
- 1. Rs. 7850
 - 2. Rs. 8550
 - 3. Rs. 9000
 - 4. Rs. 9150

Question Type : MCQ

Question ID : 264330138706

Option 1 ID : 264330543433

Option 2 ID : 264330543431

Option 3 ID : 264330543432

Option 4 ID : 264330543434

Status : Answered

Chosen Option : 2

Q.19 रमेश एक वस्तु को 20 प्रतिशत की हानि पर बेचता है। यदि वह इसे 30 प्रतिशत कम मूल्य पर खरीदता है और इसे Rs. 36 कम मूल्य पर बेचता है, तो उसका लाभ 10 प्रतिशत होगा। वस्तु का क्रय मूल्य क्या है?

- Ans
- 1. 1500
 - 2. 1200
 - 3. 1000
 - 4. 900

Question Type : MCQ

Question ID : 264330137672

Option 1 ID : 264330539295

Option 2 ID : 264330539296

Option 3 ID : 264330539297

Option 4 ID : 264330539298

Status : Answered

Chosen Option : 2

Q.20 एक त्रिभुज की भुजाएँ 20 cm, 48 cm और 52 cm हैं। त्रिभुज का क्षेत्रफल क्या है?

- Ans
- 1. 560 cm²
 - 2. 245 cm²
 - 3. 320 cm²
 - 4. 480 cm²

Question Type : MCQ

Question ID : 264330137659

Option 1 ID : 264330539244

Option 2 ID : 264330539243

Option 3 ID : 264330539246

Option 4 ID : 264330539245

Status : Answered

Chosen Option : 4

Section : Reasoning Ability and Problem Solving

Q.1 A, B, C, D और E एक सीधी पंक्ति में उत्तर की ओर मुख करके बैठे हैं। C, B और D के ठीक बीच में बैठा है। E, B के ठीक बाएँ पर है। D बेंच के छोर पर नहीं बैठा है। D के ठीक दाईं ओर कौन बैठा है?

- Ans
- 1. B
 - 2. A
 - 3. E
 - 4. C

Question Type : MCQ

Question ID : 264330137590

Option 1 ID : 264330538968

Option 2 ID : 264330538967

Option 3 ID : 264330538970

Option 4 ID : 264330538969

Status : Answered

Chosen Option : 2

Q.2 दी गई श्रृंखला में निम्नलिखित में से कौन-सा अक्षर प्रश्न चिन्ह (?) के स्थान पर आएगा?
L, K, I, F, B, W, ?

- Ans
- 1. U
 - 2. M
 - 3. R
 - 4. Q

Question Type : MCQ

Question ID : 264330137581

Option 1 ID : 264330538934

Option 2 ID : 264330538931

Option 3 ID : 264330538932

Option 4 ID : 264330538933

Status : Answered

Chosen Option : 4

Q.3 तीन कथन दिए गए हैं और दो निष्कर्ष I और II दिए गए हैं। कथनों को सत्य मानते हुए, चाहे वे सामान्यतः ज्ञात तथ्यों से अलग प्रतीत होते हों, निश्चय कीजिए कि कौन-सा निष्कर्ष तार्किक रूप से कथनों के अनुसार है।
कथन:

कुछ नगर, शहर हैं।

कुछ शहर, गाँव हैं।

सभी गाँव, राज्य हैं।

निष्कर्ष:

I. कुछ नगर, गाँव नहीं हैं।

II. कुछ राज्य, शहर हैं।

Ans

1. दोनों निष्कर्ष I और II कथनों के अनुसार हैं।
2. केवल निष्कर्ष I कथनों के अनुसार है।
3. न तो निष्कर्ष I और न ही II कथनों के अनुसार है।
4. केवल निष्कर्ष II कथनों के अनुसार है।

Question Type : MCQ

Question ID : 264330137593

Option 1 ID : 264330538981

Option 2 ID : 264330538979

Option 3 ID : 264330538982

Option 4 ID : 264330538980

Status : Answered

Chosen Option : 4

Q.4 दिए गए समीकरण को सही करने के लिए किन दो संख्याओं को आपस में बदला जाना चाहिए?

$$9 + 30 \times 15 - 18 \div 6 = 274$$

Ans

1. 9 और 30
2. 15 और 18
3. 18 और 9
4. 30 और 18

Question Type : MCQ

Question ID : 264330133577

Option 1 ID : 264330523331

Option 2 ID : 264330523332

Option 3 ID : 264330523334

Option 4 ID : 264330523333

Status : Answered

Chosen Option : 4

Q.5 Q, R, और S एक सीधी पंक्ति में दक्षिण की ओर मुख करके बैठे हैं। U, W, और X एक समानांतर पंक्ति में उत्तर की ओर मुख करके बैठे हैं। Q, S के ठीक बाएँ पर और W के सम्मुख बैठा है। R, जो U के सम्मुख है, S के ठीक दाईं ओर बैठा है। U के ठीक दाईं ओर कौन बैठा है?

- Ans**
- 1. S
 - 2. Q
 - 3. X
 - 4. W

Question Type : **MCQ**

Question ID : **264330137589**

Option 1 ID : **264330538963**

Option 2 ID : **264330538964**

Option 3 ID : **264330538965**

Option 4 ID : **264330538966**

Status : **Answered**

Chosen Option : **3**

Q.6 यदि एक दर्पण को रेखा AB पर रखा जाए, तो दिए गए विकल्पों में से कौन-सी आकृति प्रश्न आकृति का सही प्रतिबिम्ब होगी?



Ans

- 1.
- 2.
- 3.
- 4.

Question Type : **MCQ**

Question ID : **264330135613**

Option 1 ID : **264330531351**

Option 2 ID : **264330531353**

Option 3 ID : **264330531354**

Option 4 ID : **264330531352**

Status : **Answered**

Chosen Option : **1**

Q.7 सात व्यक्ति A, B, C, D, E, F और G अपने कद की तुलना कर रहे हैं। कोई भी दो व्यक्तियों का कद समान नहीं है। F, A से लंबा है, जो D और C से लंबा है। केवल दो व्यक्ति E से कद में छोटे हैं लेकिन उनमें से कोई भी C नहीं है। D सबसे छोटे कद वाला व्यक्ति नहीं है। G का कद केवल एक व्यक्ति, F से छोटा है। सबसे छोटे कद वाला व्यक्ति कौन है?

- Ans**
- 1. A
 - 2. E
 - 3. C
 - 4. B

Question Type : **MCQ**

Question ID : **264330137591**

Option 1 ID : **264330538974**

Option 2 ID : **264330538971**

Option 3 ID : **264330538972**

Option 4 ID : **264330538973**

Status : **Answered**

Chosen Option : **4**

Q.8 दी गई श्रृंखला में निम्नलिखित में से कौन-सी संख्या प्रश्न चिन्ह (?) के स्थान पर आएगी?
92, 99, 106, 113, 120, ?

- Ans**
- 1. 217
 - 2. 127
 - 3. 117
 - 4. 213

Question Type : **MCQ**

Question ID : **264330137595**

Option 1 ID : **264330538988**

Option 2 ID : **264330538990**

Option 3 ID : **264330538987**

Option 4 ID : **264330538989**

Status : **Answered**

Chosen Option : **2**

Q.9 उस विकल्प आकृति को चुनिए जिसमें दी गई आकृति निहित है। (घूर्णन की अनुमति नहीं है)

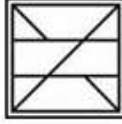


Ans

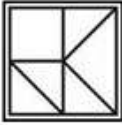
✗ 1.



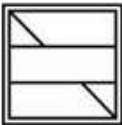
✓ 2.



✗ 3.



✗ 4.



Question Type : MCQ

Question ID : 264330135612

Option 1 ID : 264330531350

Option 2 ID : 264330531347

Option 3 ID : 264330531348

Option 4 ID : 264330531349

Status : Answered

Chosen Option : 2

Q.10 एक निश्चित कूट भाषा में, 'EMPIRE' को '5P16L18H' लिखा जाता है। उस कूट भाषा में 'EXPAND' को कैसे लिखा जाएगा?

Ans

✗ 1. 5G16D14G

✓ 2. 5A16D14G

✗ 3. 5A16D18G

✗ 4. 5A61D14G

Question Type : MCQ

Question ID : 264330134983

Option 1 ID : 264330528870

Option 2 ID : 264330528869

Option 3 ID : 264330528868

Option 4 ID : 264330528867

Status : Answered

Chosen Option : 2

Q.11 उस विकल्प को चुनिए जो तीसरे शब्द से ठीक उसी तरह संबंधित है जिस तरह दूसरा शब्द पहले शब्द से संबंधित है।
न्यायाधीश (जज) : अदालत :: जुआरी : ?

- Ans
- 1. स्टेशन
 - 2. हैंगर
 - 3. समुद्र
 - 4. जुआघर

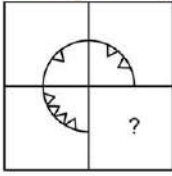
Question Type : MCQ
Question ID : 264330134977
Option 1 ID : 264330528844
Option 2 ID : 264330528843
Option 3 ID : 264330528846
Option 4 ID : 264330528845
Status : Answered
Chosen Option : 4

Q.12 दिए गए पैटर्न का ध्यानपूर्वक अध्ययन कीजिए और उस संख्या को चुनिए जो इसमें प्रश्न चिन्ह (?) के स्थान पर आ सकती है।
पहली पंक्ति- 25, 40, 10
दूसरी पंक्ति- 55, 70, 40
तीसरी पंक्ति- 33, 48, ?

- Ans
- 1. 17
 - 2. 18
 - 3. 19
 - 4. 15

Question Type : MCQ
Question ID : 264330137597
Option 1 ID : 264330538995
Option 2 ID : 264330538997
Option 3 ID : 264330538998
Option 4 ID : 264330538996
Status : Answered
Chosen Option : 2

Q.13 उस विकल्प आकृति को चुनिए जो पैटर्न को पूरा करने के लिए नीचे दी गई आकृति में प्रश्न चिन्ह (?) के स्थान पर आएगी। (घूर्णन की अनुमति नहीं है)



Ans

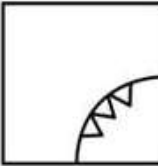
✗ 1.



✗ 2.



✗ 3.



✓ 4.



Question Type : MCQ

Question ID : 264330137602

Option 1 ID : 264330539015

Option 2 ID : 264330539016

Option 3 ID : 264330539017

Option 4 ID : 264330539018

Status : Answered

Chosen Option : 4

Q.14 एक निश्चित कूट भाषा में, 'IMAGE' को 'RN1TV' लिखा जाता है। उस कूट भाषा में 'KNIFE' को कैसे लिखा जाएगा?

Ans

✓ 1. PM9UV

✗ 2. PIMVU

✗ 3. P9MUV

✗ 4. PM9VU

Question Type : MCQ

Question ID : 264330134981

Option 1 ID : 264330528859

Option 2 ID : 264330528860

Option 3 ID : 264330528861

Option 4 ID : 264330528862

Status : Answered

Chosen Option : 1

Q.15 उस विकल्प को चुनिए जो तीसरे अक्षर से ठीक उसी प्रकार संबंधित है जिस प्रकार दूसरा अक्षर पहले अक्षर से संबंधित है।

A : Z :: I : ?

- Ans
- 1. V
 - 2. R
 - 3. S
 - 4. T

Question Type : MCQ
Question ID : 264330137584
Option 1 ID : 264330538946
Option 2 ID : 264330538944
Option 3 ID : 264330538943
Option 4 ID : 264330538945
Status : Answered
Chosen Option : 2

Q.16 एक निश्चित कूट भाषा में, 'RATIO' को 'ITARO' लिखा जाता है। उस भाषा में 'UNTIL' को कैसे लिखा जाएगा?

- Ans
- 1. INTUL
 - 2. ITLUN
 - 3. ITUNL
 - 4. ITNUL

Question Type : MCQ
Question ID : 264330137858
Option 1 ID : 264330540039
Option 2 ID : 264330540041
Option 3 ID : 264330540042
Option 4 ID : 264330540040
Status : Answered
Chosen Option : 4

Q.17 उस विकल्प को चुनिए जो तीसरे शब्द से ठीक उसी प्रकार संबंधित है जिस प्रकार दूसरा शब्द पहले शब्द से संबंधित है।

मलेशिया : कुआलालंपुर (Kuala Lumpur) :: भूटान : ?

- Ans
- 1. थिम्फू
 - 2. काठमांडू
 - 3. ढाका
 - 4. इस्लामाबाद

Question Type : MCQ
Question ID : 264330137583
Option 1 ID : 264330538941
Option 2 ID : 264330538942
Option 3 ID : 264330538940
Option 4 ID : 264330538939
Status : Answered
Chosen Option : 1

Q.18 दो कथन दिए गए हैं और दो निष्कर्ष I और II दिए गए हैं। कथनों को सत्य मानते हुए, चाहे वे सामान्यतः ज्ञात तथ्यों से अलग प्रतीत होते हों, निश्चय कीजिए कि कौन-सा निष्कर्ष तार्किक रूप से कथनों के अनुसार है।
कथन:

सभी विषय, कठिन हैं।

कोई कठिन, आसान नहीं है।

निष्कर्ष:

I. कुछ विषय, आसान हैं।

II. कुछ आसान, कठिन हैं।

Ans

1. केवल निष्कर्ष II कथनों के अनुसार है।
2. केवल निष्कर्ष I कथनों के अनुसार है।
3. दोनों निष्कर्ष I और II कथनों के अनुसार हैं।
4. न तो निष्कर्ष I और न ही II कथनों के अनुसार है।

Question Type : MCQ

Question ID : 264330137592

Option 1 ID : 264330538976

Option 2 ID : 264330538975

Option 3 ID : 264330538977

Option 4 ID : 264330538978

Status : Answered

Chosen Option : 4

Q.19 निम्नलिखित प्रश्न में, दी गई श्रृंखला में लुप्त संख्या को चुनिए ।

1, 22, 43, 64, 85, ?

Ans

1. 110
2. 106
3. 108
4. 114

Question Type : MCQ

Question ID : 264330138489

Option 1 ID : 264330542565

Option 2 ID : 264330542563

Option 3 ID : 264330542564

Option 4 ID : 264330542566

Status : Answered

Chosen Option : 2

Q.20 दिए गए समीकरण को सही करने के लिए किन दो संख्याओं को आपस में बदला जाना चाहिए?
 $11 \times 2 + 15 \div 13 - 3 = 14$

- Ans
- 1. 14 और 15
 - 2. 11 और 15
 - 3. 13 और 3
 - 4. 3 और 2

Question Type : MCQ
Question ID : 264330137598
Option 1 ID : 264330539002
Option 2 ID : 264330539000
Option 3 ID : 264330538999
Option 4 ID : 264330539001
Status : Answered
Chosen Option : 3

Section : General Awareness

Q.1 नीरज चोपड़ा ने _____ के थ्रो (throw) के साथ टोक्यो ओलंपिक 2020 में ऐतिहासिक स्वर्ण पदक जीता।

- Ans
- 1. 87.58 m
 - 2. 85.58 m
 - 3. 86.58 m
 - 4. 88.58 m

Question Type : MCQ
Question ID : 264330138250
Option 1 ID : 264330541609
Option 2 ID : 264330541607
Option 3 ID : 264330541608
Option 4 ID : 264330541610
Status : Answered
Chosen Option : 4

Q.2 निम्नलिखित में से कौन-सी संरचना बौद्ध धर्म से संबंधित है?

- Ans
- 1. मंडप
 - 2. पल्लव
 - 3. शिखर
 - 4. स्तूप

Question Type : MCQ
Question ID : 264330134035
Option 1 ID : 264330525163
Option 2 ID : 264330525166
Option 3 ID : 264330525164
Option 4 ID : 264330525165
Status : Answered
Chosen Option : 4

Q.3 सरकार ने _____ में उद्यमशीलता को बढ़ावा देने के लिए स्टैंड-अप इंडिया योजना शुरू की है।

- Ans
- 1. बुजुर्ग व्यक्तियों
 - 2. विकलांग व्यक्तियों
 - 3. महिलाएँ और अनुसूचित जाति/जनजाति समुदाय
 - 4. ट्रांसजेंडर समुदाय

Question Type : MCQ
Question ID : 264330137761
Option 1 ID : 264330539651
Option 2 ID : 264330539652
Option 3 ID : 264330539653
Option 4 ID : 264330539654
Status : Answered
Chosen Option : 2

Q.4 राष्ट्रीय कृषि और ग्रामीण विकास बैंक का मुख्य कार्यालय _____ में स्थित है।

- Ans
- 1. चेन्नई
 - 2. कोलकाता
 - 3. पुणे
 - 4. मुंबई

Question Type : MCQ
Question ID : 264330137993
Option 1 ID : 264330540582
Option 2 ID : 264330540579
Option 3 ID : 264330540580
Option 4 ID : 264330540581
Status : Answered
Chosen Option : 3

Q.5 मंत्रिपरिषद में प्रधानमंत्री सहित मंत्रियों की कुल संख्या लोकसभा के सदस्यों की कुल संख्या के _____ प्रतिशत से अधिक नहीं होनी चाहिए।

- Ans
- 1. बीस
 - 2. पंद्रह
 - 3. दस
 - 4. बारह

Question Type : MCQ
Question ID : 264330137782
Option 1 ID : 264330539735
Option 2 ID : 264330539736
Option 3 ID : 264330539737
Option 4 ID : 264330539738
Status : Answered
Chosen Option : 3

Q.6 चपचार कुट (Chapchar kut) महोत्सव, भारत के _____ राज्य का एक प्रसिद्ध त्योहार है।

- Ans
- ✓ 1. मिज़ोरम
 - ✗ 2. पंजाब
 - ✗ 3. उत्तरप्रदेश
 - ✗ 4. तमिलनाडु

Question Type : MCQ

Question ID : 264330135462

Option 1 ID : 264330530755

Option 2 ID : 264330530756

Option 3 ID : 264330530758

Option 4 ID : 264330530757

Status : Answered

Chosen Option : 1

Q.7 निम्नलिखित में से किस क्षेत्र में वर्ष भर दिन और रात लगभग बराबर होते हैं?

- Ans
- ✗ 1. पर्वतीय वन क्षेत्र
 - ✗ 2. टुंड्रा क्षेत्र
 - ✓ 3. भूमध्यरेखीय क्षेत्र
 - ✗ 4. मरुस्थलीय क्षेत्र

Question Type : MCQ

Question ID : 264330138261

Option 1 ID : 264330541654

Option 2 ID : 264330541651

Option 3 ID : 264330541652

Option 4 ID : 264330541653

Status : Answered

Chosen Option : 3

Q.8 स्थानांतरी कृषि को _____ में झूम के नाम से भी जाना जाता है।

- Ans
- ✗ 1. राजस्थान
 - ✗ 2. महाराष्ट्र
 - ✓ 3. असम
 - ✗ 4. कर्नाटक

Question Type : MCQ

Question ID : 264330137978

Option 1 ID : 264330540519

Option 2 ID : 264330540522

Option 3 ID : 264330540521

Option 4 ID : 264330540520

Status : Answered

Chosen Option : 3

Q.9 In which sport did Mirabai Chamu win India's first Gold Medal at the Commonwealth Games 2022?

- Ans
- 1. Boxing
 - 2. Shooting
 - 3. Weightlifting
 - 4. Archery

Question Type : MCQ
Question ID : 264330137783
Option 1 ID : 264330539740
Option 2 ID : 264330539741
Option 3 ID : 264330539742
Option 4 ID : 264330539739
Status : Answered
Chosen Option : 3

Q.10 कथकली किस राज्य का शास्त्रीय नृत्य है?

- Ans
- 1. कर्नाटक
 - 2. केरल
 - 3. आंध्रप्रदेश
 - 4. तमिलनाडु

Question Type : MCQ
Question ID : 264330137763
Option 1 ID : 264330539659
Option 2 ID : 264330539660
Option 3 ID : 264330539662
Option 4 ID : 264330539661
Status : Answered
Chosen Option : 2

Q.11 भारतीय संविधान के कौन-से अनुच्छेद मौलिक अधिकारों की बात करते हैं?

- Ans
- 1. अनुच्छेद 12 से 35
 - 2. अनुच्छेद 5 से 11
 - 3. अनुच्छेद 5 से 35
 - 4. अनुच्छेद 12 से 40

Question Type : MCQ
Question ID : 264330137781
Option 1 ID : 264330539734
Option 2 ID : 264330539731
Option 3 ID : 264330539732
Option 4 ID : 264330539733
Status : Answered
Chosen Option : 1

Q.12 संधाल समुदाय _____ भारत का एक नृजातीय समूह है।

- Ans
- 1. पश्चिमी
 - 2. उत्तरी
 - 3. पूर्वी
 - 4. दक्षिणी

Question Type : MCQ
Question ID : 264330135472
Option 1 ID : 264330530796
Option 2 ID : 264330530797
Option 3 ID : 264330530795
Option 4 ID : 264330530798
Status : Answered
Chosen Option : 2

Q.13 श्रीमंत शंकरदेव को आम तौर पर नए संगीत, नाटकीय और भाषाई शैली का पथप्रदर्शक माना जाता है। वह निम्नलिखित में से किस नृत्य शैली से संबंधित हैं?

- Ans
- 1. सत्रिया
 - 2. कथकली
 - 3. ओडिसी
 - 4. मणिपुरी

Question Type : MCQ
Question ID : 264330137988
Option 1 ID : 264330540562
Option 2 ID : 264330540561
Option 3 ID : 264330540560
Option 4 ID : 264330540559
Status : Answered
Chosen Option : 2

Q.14 निम्न में से कौन-सी जानी-मानी शख्सियत आधुनिक इतिहास के चरमपंथी चरण से संबंधित थे?

- Ans
- 1. ए. ओ. ह्यूम (A.O. Hume)
 - 2. बाल गंगाधर तिलक
 - 3. गोपाल कृष्ण गोखले
 - 4. पी.एम. मेहता (P.M. Mehta)

Question Type : MCQ
Question ID : 264330134046
Option 1 ID : 264330525208
Option 2 ID : 264330525210
Option 3 ID : 264330525207
Option 4 ID : 264330525209
Status : Answered
Chosen Option : 2

Q.15 दंत क्षय को कम करने के लिए टूथपेस्ट में क्या मिलाया जाता है?

- Ans
- 1. लौह (Iron)
 - 2. कोबाल्ट (Cobalt)
 - 3. फ्लूराइड (Fluoride)
 - 4. मालिब्डेनम (Molybdenum)

Question Type : MCQ
Question ID : 264330137767
Option 1 ID : 264330539677
Option 2 ID : 264330539678
Option 3 ID : 264330539675
Option 4 ID : 264330539676
Status : Answered
Chosen Option : 2

Q.16 लेंस की क्षमता का SI मात्रक _____ है।

- Ans
- 1. वाट (watt)
 - 2. मोल (mole)
 - 3. कैंडेला (candela)
 - 4. डाइऑप्टर (diopetre)

Question Type : MCQ
Question ID : 264330138262
Option 1 ID : 264330541655
Option 2 ID : 264330541657
Option 3 ID : 264330541656
Option 4 ID : 264330541658
Status : Answered
Chosen Option : 4

Q.17 "द इन्हेरिटेंस ऑफ लॉस (The Inheritance of Loss)" निम्नलिखित में से किस लेखक द्वारा लिखा गया है?

- Ans
- 1. अनीता देसाई
 - 2. अमिताव घोष
 - 3. किरण देसाई
 - 4. झुंपा लाहिड़ी

Question Type : MCQ
Question ID : 264330137986
Option 1 ID : 264330540553
Option 2 ID : 264330540554
Option 3 ID : 264330540552
Option 4 ID : 264330540551
Status : Answered
Chosen Option : 3

Q.18 केंद्रीय गृह मंत्रालय के अनुसार, 2021 की जनगणना (जो COVID 19 के कारण स्थगित हो गई थी) में पहली बार _____ का डेटा एकत्र करना था।

- Ans
- 1. अनुसूचित जनजातियाँ
 - 2. अनुसूचित जातियाँ
 - 3. आर्थिक रूप से कमजोर वर्ग
 - 4. अन्य पिछड़ा वर्ग

Question Type : MCQ
Question ID : 264330134042
Option 1 ID : 264330525194
Option 2 ID : 264330525193
Option 3 ID : 264330525191
Option 4 ID : 264330525192
Status : Answered
Chosen Option : 3

Q.19 राष्ट्रीय डोपिंग रोधी विधेयक 27 जुलाई, 2022 को लोकसभा में पारित हुआ था। निम्नलिखित में से कौन-सी संस्था भारत में डोपिंग नियंत्रण कार्यक्रमों का प्रबंधन और संचालन करती है?

- Ans
- 1. राष्ट्रीय प्रतिकूल डोपिंग एजेंसी (National Adverse Doping Agency (NADA))
 - 2. राष्ट्रीय डोपिंग रोधी एजेंसी (National Anti-Doping Agency (NADA))
 - 3. राष्ट्रीय डोप परीक्षण प्रयोगशाला (National Dope Testing Laboratory (NDTL))
 - 4. राष्ट्रीय डोपिंग नियंत्रण एजेंसी (National Doping Control Agency (NDCA))

Question Type : MCQ
Question ID : 264330134032
Option 1 ID : 264330525154
Option 2 ID : 264330525151
Option 3 ID : 264330525152
Option 4 ID : 264330525153
Status : Answered
Chosen Option : 2

Q.20 प्रवास में, वे कारक जो लोगों को अपने निवास स्थान अथवा उद्गम को छोड़वाने का कारण बनते हैं, _____ कहलाते हैं।

- Ans
- 1. नियमित कारक (Regular factor)
 - 2. प्रतिकर्ष कारक (Push factor)
 - 3. अनियमित कारक (Irregular factor)
 - 4. अपकर्ष कारक (Pull factor)

Question Type : MCQ
Question ID : 264330138315
Option 1 ID : 264330541870
Option 2 ID : 264330541868
Option 3 ID : 264330541869
Option 4 ID : 264330541867
Status : Answered
Chosen Option : 3

Q.21 विश्व में सर्वाधिक वर्षा वाला स्थान कौन-सा है?

Ans ✓ 1. मासिनराम (Mawsynram)

✗ 2. गुवाहाटी (Guwahati)

✗ 3. ईटानगर (Itanagar)

✗ 4. अगरतला (Agartala)

Question Type : MCQ

Question ID : 264330137771

Option 1 ID : 264330539692

Option 2 ID : 264330539691

Option 3 ID : 264330539694

Option 4 ID : 264330539693

Status : Answered

Chosen Option : 1

Q.22 "उर्वरक" के संदर्भ में निम्नलिखित में से कौन-सा कथन सही नहीं है?

Ans ✗ 1. ये प्राकृतिक पदार्थ हैं

✓ 2. ये मृदा को ह्यूमस प्रदान नहीं करते

✗ 3.

इनमें पादप पोषक तत्व तुलनात्मक रूप से कम मात्रा में होते हैं

✗ 4. इन्हें खेतों में तैयार किया जा सकता है

Question Type : MCQ

Question ID : 264330138260

Option 1 ID : 264330541647

Option 2 ID : 264330541648

Option 3 ID : 264330541650

Option 4 ID : 264330541649

Status : Answered

Chosen Option : 3

Q.23 चोल काल के दौरान _____ को "ब्रह्मदेय" प्रकार की भूमि के रूप में जाना जाता था।

Ans ✗ 1. राजकीय व्यक्ति की भूमि

✗ 2. मंदिर को उपहार में दी गई भूमि

✗ 3. गैर-ब्राह्मण किसान स्वामी की भूमि

✓ 4. ब्राह्मणों को उपहार में दी गई भूमि

Question Type : MCQ

Question ID : 264330138268

Option 1 ID : 264330541681

Option 2 ID : 264330541680

Option 3 ID : 264330541679

Option 4 ID : 264330541682

Status : Answered

Chosen Option : 4

Q.24 निम्नलिखित स्वतंत्रता सेनानियों में से कौन 1885 में पुणे में फर्ग्युसन (Fergusson) कॉलेज के संस्थापकों में से एक था?

- Ans
- 1. सरदार वल्लभ भाई पटेल
 - 2. बाल गंगाधर तिलक
 - 3. लाला लाजपत राय
 - 4. सुभाष चंद्र बोस

Question Type : MCQ
Question ID : 264330135475
Option 1 ID : 264330530808
Option 2 ID : 264330530809
Option 3 ID : 264330530810
Option 4 ID : 264330530807
Status : Answered
Chosen Option : 1

Q.25 निम्नलिखित में से किस गायक को दादा साहब फाल्के पुरस्कार से सम्मानित किया गया है?

- Ans
- 1. सोनू निगम
 - 2. आशा भोसले
 - 3. अरिजीत सिंह
 - 4. नेहा कक्कड़

Question Type : MCQ
Question ID : 264330137779
Option 1 ID : 264330539726
Option 2 ID : 264330539724
Option 3 ID : 264330539723
Option 4 ID : 264330539725
Status : Answered
Chosen Option : 2

Section : English Language and Comprehension

Q.1 Select the correctly spelt word.

- Ans
- 1. Dominiering
 - 2. Domineering
 - 3. Domoneering
 - 4. Dominering

Question Type : MCQ
Question ID : 264330136235
Option 1 ID : 264330533730
Option 2 ID : 264330533727
Option 3 ID : 264330533728
Option 4 ID : 264330533729
Status : Answered
Chosen Option : 2

Q.2 Find the part of the given sentence that has an error in it. If there is no error, choose 'No error'.

He didn't went to the school as he was down with fever.

- Ans
- 1. was down with fever.
 - 2. No error
 - 3. to the school as he
 - 4. He didn't went

Question Type : MCQ

Question ID : 264330134398

Option 1 ID : 264330526573

Option 2 ID : 264330526574

Option 3 ID : 264330526572

Option 4 ID : 264330526571

Status : Answered

Chosen Option : 2

Q.3 Select the most appropriate meaning of the given idiom.

High horse

- Ans
- 1. To be very lucky
 - 2. To have a low self-esteem
 - 3. An attitude of moral superiority
 - 4. To be the person in charge

Question Type : MCQ

Question ID : 264330136633

Option 1 ID : 264330535257

Option 2 ID : 264330535256

Option 3 ID : 264330535255

Option 4 ID : 264330535258

Status : Answered

Chosen Option : 1

Q.4 Choose the word that is opposite in meaning to the given word.

Apprentice

- Ans
- 1. Essential
 - 2. Crude
 - 3. Neophyte
 - 4. Veteran

Question Type : MCQ

Question ID : 264330134520

Option 1 ID : 264330527041

Option 2 ID : 264330527042

Option 3 ID : 264330527039

Option 4 ID : 264330527040

Status : Answered

Chosen Option : 4

Q.5 Identify the segment that contains a grammatical error. If there is no error, select 'No error'.

He behaves so aggressive in his new/ home that he is rehoused with an old/ couple who could give him everything he lacks.

- Ans**
- 1. He behaves so aggressive in his new
 - 2. home that he is rehoused with an old
 - 3. couple who could give him everything he lacks.
 - 4. No error

Question Type : **MCQ**
Question ID : **264330136665**
Option 1 ID : **264330535379**
Option 2 ID : **264330535380**
Option 3 ID : **264330535381**
Option 4 ID : **264330535382**
Status : **Answered**
Chosen Option : **3**

Q.6 Select the most appropriate antonym to substitute the bracketed word in the given sentence.

The lens in this collection is focused very carefully upon the (quotidian), with all of its utterly familiar vexations.

- Ans**
- 1. Mandatory
 - 2. Obligatory
 - 3. Normal
 - 4. Sporadic

Question Type : **MCQ**
Question ID : **264330136232**
Option 1 ID : **264330533715**
Option 2 ID : **264330533718**
Option 3 ID : **264330533716**
Option 4 ID : **264330533717**
Status : **Answered**
Chosen Option : **1**

Q.7 Select the most appropriate option to fill in the blank.

He wanted me to _____ your necklace.

- Ans**
- 1. stern
 - 2. steam
 - 3. steel
 - 4. steal

Question Type : **MCQ**
Question ID : **264330135228**
Option 1 ID : **264330529835**
Option 2 ID : **264330529836**
Option 3 ID : **264330529838**
Option 4 ID : **264330529837**
Status : **Answered**
Chosen Option : **4**

Q.8 Choose the word that means the same as the given word.

Backfire

- Ans
- 1. Florid
 - 2. Flood
 - 3. Collapse
 - 4. Flourish

Question Type : **MCQ**
Question ID : **264330135273**
Option 1 ID : **264330530007**
Option 2 ID : **264330530008**
Option 3 ID : **264330530010**
Option 4 ID : **264330530009**
Status : **Answered**
Chosen Option : **4**

Q.9 Identify the segment that contains a grammatical error. If there is no error, select 'No error'

In doing so, he have acquainted/ himself with the geological features/ and colours of the stone of the site.

- Ans
- 1. and colours of the stone of the site.
 - 2. himself with the geological features
 - 3. No error
 - 4. In doing so, he have acquainted

Question Type : **MCQ**
Question ID : **264330136215**
Option 1 ID : **264330533653**
Option 2 ID : **264330533652**
Option 3 ID : **264330533654**
Option 4 ID : **264330533651**
Status : **Answered**
Chosen Option : **4**

Q.10 Select the most appropriate word for the given group of words.

Impossible to deny or disapprove

- Ans
- 1. Frangible
 - 2. Assailable
 - 3. Dubitable
 - 4. Incontrovertible

Question Type : **MCQ**
Question ID : **264330136228**
Option 1 ID : **264330533702**
Option 2 ID : **264330533699**
Option 3 ID : **264330533701**
Option 4 ID : **264330533700**
Status : **Answered**
Chosen Option : **4**

Q.11 Improve the underlined part of the sentence. Choose 'No improvement' as an answer if the sentence is grammatically correct.

The film's director decide to reshoot the scene.

- Ans**
- 1. No improvement
 - 2. decided to reshoot
 - 3. deciding to reshoot
 - 4. decide to reshot

Question Type : **MCQ**
Question ID : **264330134775**
Option 1 ID : **264330528050**
Option 2 ID : **264330528047**
Option 3 ID : **264330528049**
Option 4 ID : **264330528048**
Status : **Answered**
Chosen Option : **2**

Q.12 Choose the sentence with no spelling error.

- Ans**
- 1. We need to give priorrity to customer satisfaction.
 - 2. We need to give priority to customar satisfaction.
 - 3. We need to give priority to customer satisfraction.
 - 4. We need to give priority to customer satisfaction.

Question Type : **MCQ**
Question ID : **264330135227**
Option 1 ID : **264330529834**
Option 2 ID : **264330529832**
Option 3 ID : **264330529831**
Option 4 ID : **264330529833**
Status : **Answered**
Chosen Option : **4**

Q.13 Select the most appropriate option to fill in the blank.

If the anesthesia is not _____ properly, he might wake up in the _____ of the surgery.

- Ans**
- 1. perpetuated/ start
 - 2. administered/ middle
 - 3. perpetuated/ middle
 - 4. administer/during

Question Type : **MCQ**
Question ID : **264330136238**
Option 1 ID : **264330533741**
Option 2 ID : **264330533740**
Option 3 ID : **264330533742**
Option 4 ID : **264330533739**
Status : **Answered**
Chosen Option : **2**

Q.14 Select the most appropriate word for the given group of words.

Scientific tests or techniques used in connection with the detection of crime

- Ans**
- 1. Etymology
 - 2. Autopsy
 - 3. Post-mortem
 - 4. Forensics

Question Type : **MCQ**
Question ID : **264330136627**
Option 1 ID : **264330535231**
Option 2 ID : **264330535233**
Option 3 ID : **264330535232**
Option 4 ID : **264330535234**
Status : **Answered**
Chosen Option : **3**

Q.15 A sentence has been given with a blank to be filled with an appropriate option. Choose the correct alternative.

The need to take theatre online _____ in global collaborations.

- Ans**
- 1. result
 - 2. have resulted
 - 3. has resulted
 - 4. resulting

Question Type : **MCQ**
Question ID : **264330135263**
Option 1 ID : **264330529974**
Option 2 ID : **264330529972**
Option 3 ID : **264330529973**
Option 4 ID : **264330529971**
Status : **Answered**
Chosen Option : **3**

Q.16 Select the word segment that substitutes (replaces) the bracketed word segment correctly and completes the sentence meaningfully. Select the option 'no correction required' if the sentence is correct as given.

(Much times), I have felt that conversations like these must take place in person.

- Ans**
- 1. No correction required
 - 2. Many time
 - 3. Many a time
 - 4. Many a times

Question Type : **MCQ**
Question ID : **264330136244**
Option 1 ID : **264330533766**
Option 2 ID : **264330533765**
Option 3 ID : **264330533764**
Option 4 ID : **264330533763**
Status : **Answered**
Chosen Option : **1**

Q.17 Select the most appropriate option to substitute the bracketed segment in the given sentence. If there is no need to substitute it, select 'no substitution required'.

Jane was asked by her (aunt, "Where were you least night?")

- Ans**
- 1. No substitution required
 - 2. aunt that, "Where were you last night?"
 - 3. aunt, "Where were you last night?"
 - 4. aunt, "Where last night you was?"

Question Type : **MCQ**
Question ID : **264330136668**
Option 1 ID : **264330535394**
Option 2 ID : **264330535391**
Option 3 ID : **264330535393**
Option 4 ID : **264330535392**
Status : **Answered**
Chosen Option : **3**

Q.18 Select the most appropriate synonym of the given word.

Unfamiliar

- Ans**
- 1. Prodigious
 - 2. Unsparing
 - 3. Parallel
 - 4. Strange

Question Type : **MCQ**
Question ID : **264330136229**
Option 1 ID : **264330533705**
Option 2 ID : **264330533706**
Option 3 ID : **264330533704**
Option 4 ID : **264330533703**
Status : **Answered**
Chosen Option : **4**

Q.19 Select the most appropriate meaning of the bracketed idiom in the given sentence.

After repeated failures and disappointments he was tempted (to throw up the sponge), but continued perseverance finally brought success.

- Ans**
- 1. To catch somebody of guard
 - 2. To be afraid
 - 3. To surrender or give up the contest
 - 4. To reveal secret information

Question Type : **MCQ**
Question ID : **264330136234**
Option 1 ID : **264330533726**
Option 2 ID : **264330533723**
Option 3 ID : **264330533724**
Option 4 ID : **264330533725**
Status : **Answered**
Chosen Option : **3**

Q.20 Select the most appropriate option to fill in the blank.

As a preliminary to negotiation, the government was required to _____ all the obnoxious measures.

- Ans**
- 1. quaint
 - 2. requisite
 - 3. rescind
 - 4. repeat

Question Type : **MCQ**
Question ID : **264330136219**
Option 1 ID : **264330533667**
Option 2 ID : **264330533669**
Option 3 ID : **264330533670**
Option 4 ID : **264330533668**
Status : **Answered**
Chosen Option : **3**

Comprehension:

In the following passage some of the words have been deleted. Read the passage carefully and select the correct answer for the given blank out of the four alternatives.

Gaming in the banking sector seems virtually (1) _____ to eliminate. The only effective measure to end it would be to (2) _____ bankers personally liable for losses, to remove the sense that their actions – their games – have (3) _____ personal financial or legal consequences.

It is this, rather (4) _____ removing the cap on bankers' bonuses, that has the best chance of preventing the financial system blowing (5) _____ again.

SubQuestion No : 21

Q.21 Select the most appropriate option to fill in blank number 1.

- Ans**
- 1. liable
 - 2. penetrable
 - 3. impossible
 - 4. feasible

Question Type : **MCQ**
Question ID : **264330134511**
Option 1 ID : **264330527004**
Option 2 ID : **264330527005**
Option 3 ID : **264330527003**
Option 4 ID : **264330527006**
Status : **Answered**
Chosen Option : **3**

Comprehension:

In the following passage some of the words have been deleted. Read the passage carefully and select the correct answer for the given blank out of the four alternatives.

Gaming in the banking sector seems virtually (1) _____ to eliminate. The only effective measure to end it would be to (2) _____ bankers personally liable for losses, to remove the sense that their actions – their games – have (3) _____ personal financial or legal consequences.

It is this, rather (4) _____ removing the cap on bankers' bonuses, that has the best chance of preventing the financial system blowing (5) _____ again.

SubQuestion No : 22

Q.22 Select the most appropriate option to fill in blank number 2.

- Ans 1. make
 2. gave
 3. bake
 4. take

Question Type : **MCQ**

Question ID : **264330134512**

Option 1 ID : **264330527008**

Option 2 ID : **264330527007**

Option 3 ID : **264330527009**

Option 4 ID : **264330527010**

Status : **Answered**

Chosen Option : **1**

Comprehension:

In the following passage some of the words have been deleted. Read the passage carefully and select the correct answer for the given blank out of the four alternatives.

Gaming in the banking sector seems virtually (1) _____ to eliminate. The only effective measure to end it would be to (2) _____ bankers personally liable for losses, to remove the sense that their actions – their games – have (3) _____ personal financial or legal consequences.

It is this, rather (4) _____ removing the cap on bankers' bonuses, that has the best chance of preventing the financial system blowing (5) _____ again.

SubQuestion No : 23

Q.23 Select the most appropriate option to fill in blank number 3.

- Ans 1. not
 2. none
 3. never
 4. no

Question Type : **MCQ**

Question ID : **264330134513**

Option 1 ID : **264330527012**

Option 2 ID : **264330527014**

Option 3 ID : **264330527011**

Option 4 ID : **264330527013**

Status : **Answered**

Chosen Option : **4**

Comprehension:

In the following passage some of the words have been deleted. Read the passage carefully and select the correct answer for the given blank out of the four alternatives.

Gaming in the banking sector seems virtually (1) _____ to eliminate. The only effective measure to end it would be to (2) _____ bankers personally liable for losses, to remove the sense that their actions – their games – have (3) _____ personal financial or legal consequences.

It is this, rather (4) _____ removing the cap on bankers' bonuses, that has the best chance of preventing the financial system blowing (5) _____ again.

SubQuestion No : 24

Q.24 Select the most appropriate option to fill in blank number 4.

- Ans 1. so
 2. then
 3. than
 4. but

Question Type : **MCQ**

Question ID : **264330134514**

Option 1 ID : **264330527017**

Option 2 ID : **264330527015**

Option 3 ID : **264330527018**

Option 4 ID : **264330527016**

Status : **Answered**

Chosen Option : **3**

Comprehension:

In the following passage some of the words have been deleted. Read the passage carefully and select the correct answer for the given blank out of the four alternatives.

Gaming in the banking sector seems virtually (1) _____ to eliminate. The only effective measure to end it would be to (2) _____ bankers personally liable for losses, to remove the sense that their actions – their games – have (3) _____ personal financial or legal consequences.

It is this, rather (4) _____ removing the cap on bankers' bonuses, that has the best chance of preventing the financial system blowing (5) _____ again.

SubQuestion No : 25

Q.25 Select the most appropriate option to fill in blank number 5.

- Ans 1. on
 2. off
 3. up
 4. into

Question Type : **MCQ**

Question ID : **264330134515**

Option 1 ID : **264330527020**

Option 2 ID : **264330527021**

Option 3 ID : **264330527022**

Option 4 ID : **264330527019**

Status : **Answered**

Chosen Option : **2**

Multi Tasking Non Technical Staff and Havaladar CBIC and CBN Examination 2022

Roll Number	KD Job Updates
Candidate Name	KD Job Updates
Venue Name	iON Digital Zone iDZ Laxman Nagar
Exam Date	10/05/2023
Exam Time	3:30 PM - 5:00 PM
Subject	MTS Non Tech Havaladar CBIC and CBN Examination 2022

Section : Numerical and Mathematical Ability

Q.1 5 संख्याओं का औसत 48 है। उनमें से दो संख्याओं का औसत 40 है जबकि अन्य दो संख्याओं का औसत 58 है। शेष संख्या का मान ज्ञात कीजिए।

- Ans
- 1. 30
 - 2. 40
 - 3. 34
 - 4. 44

Question Type : **MCQ**
Question ID : **264330138371**
Option 1 ID : **264330542091**
Option 2 ID : **264330542093**
Option 3 ID : **264330542092**
Option 4 ID : **264330542094**
Status : **Answered**
Chosen Option : **4**

Q.2 एक विक्रेता ने Rs. 50 में 12 संतरे खरीदे और उसने Rs. 30 में 12 संतरे की दर से उन्हें बेच दिया। हानि प्रतिशत ज्ञात कीजिए।

- Ans
- 1. 30%
 - 2. 40%
 - 3. 45%
 - 4. 25%

Question Type : **MCQ**
Question ID : **264330138376**
Option 1 ID : **264330542111**
Option 2 ID : **264330542113**
Option 3 ID : **264330542114**
Option 4 ID : **264330542112**
Status : **Answered**
Chosen Option : **2**

Q.3 दो स्टेशन A और B एक सीधी रेखा पर एक-दूसरे से 230 km की दूरी पर हैं। A से एक रेलगाड़ी सुबह 4 बजे शुरू होकर B की ओर 40 km/hr की चाल से यात्रा करती है। एक दूसरी रेलगाड़ी B से सुबह 5 बजे शुरू होकर A की ओर 55 km/hr की चाल से यात्रा करती है। दोनों रेलगाड़ियाँ किस समय मिलेंगी?

- Ans
- ✓ 1. सुबह 7 बजे
 - ✗ 2. सुबह 10 बजे
 - ✗ 3. सुबह 8 बजे
 - ✗ 4. सुबह 6 बजे

Question Type : MCQ
Question ID : 264330138382
Option 1 ID : 264330542135
Option 2 ID : 264330542136
Option 3 ID : 264330542138
Option 4 ID : 264330542137
Status : Answered
Chosen Option : 1

Q.4 Rs. 500 की धनराशि 2 वर्ष में साधारण ब्याज पर Rs. 580 हो जाती है। समान साधारण ब्याज दर पर कितने वर्षों में Rs. 650 की धनराशि Rs. 858 हो जाएगी?

- Ans
- ✗ 1. 6 वर्ष
 - ✓ 2. 4 वर्ष
 - ✗ 3. 5 वर्ष
 - ✗ 4. 8 वर्ष

Question Type : MCQ
Question ID : 264330137163
Option 1 ID : 264330537298
Option 2 ID : 264330537295
Option 3 ID : 264330537296
Option 4 ID : 264330537297
Status : Answered
Chosen Option : 2

Q.5 $5(12 + 20 \div 10 \times 3 - 5)$ का मान ज्ञात कीजिए।

- Ans
- ✗ 1. 40
 - ✗ 2. 50
 - ✗ 3. 35
 - ✓ 4. 65

Question Type : MCQ
Question ID : 264330138368
Option 1 ID : 264330542082
Option 2 ID : 264330542079
Option 3 ID : 264330542080
Option 4 ID : 264330542081
Status : Answered
Chosen Option : 4

Q.6 रमेश, राहुल से 60 प्रतिशत कम कुशल है। यदि राहुल एक कंप्यूटर को 12 दिनों में बना सकता है, तो रमेश उसी कंप्यूटर को कितने दिनों में बना सकता है?

- Ans
- ✓ 1. 30 दिन
 - ✗ 2. 40 दिन
 - ✗ 3. 50 दिन
 - ✗ 4. 60 दिन

Question Type : MCQ

Question ID : 264330135043

Option 1 ID : 264330529110

Option 2 ID : 264330529109

Option 3 ID : 264330529108

Option 4 ID : 264330529107

Status : Answered

Chosen Option : 1

Q.7 यदि $(x + y)$ का 20 प्रतिशत = $(x - y)$ का 30 प्रतिशत है, तो x, y का कितना प्रतिशत है?

- Ans
- ✗ 1. 0.5 प्रतिशत
 - ✓ 2. 500 प्रतिशत
 - ✗ 3. 50 प्रतिशत
 - ✗ 4. 5 प्रतिशत

Question Type : MCQ

Question ID : 264330137158

Option 1 ID : 264330537278

Option 2 ID : 264330537275

Option 3 ID : 264330537276

Option 4 ID : 264330537277

Status : Answered

Chosen Option : 2

Q.8 $\left(\frac{28}{9} \times \frac{42}{35}\right) \div \left(\frac{3}{25} \times \frac{5}{7} \div \frac{1}{21}\right)$ का मान क्या है?
 $\left(\frac{14}{15} \div \frac{2}{75} \text{ of } \frac{7}{5}\right) \times \frac{1}{75} \div \frac{4}{3}$

- Ans
- ✗ 1. 212/27
 - ✗ 2. 222/27
 - ✗ 3. 244/27
 - ✓ 4. 224/27

Question Type : MCQ

Question ID : 264330137620

Option 1 ID : 264330539090

Option 2 ID : 264330539087

Option 3 ID : 264330539088

Option 4 ID : 264330539089

Status : Answered

Chosen Option : 4

Q.9 एक मिश्रण में रेत और पत्थर का अनुपात 5:8 है जबकि पत्थर और सीमेंट का अनुपात 32:35 है। मिश्रण में रेत और सीमेंट का अनुपात क्या है?

- Ans
- 1. 4:3
 - 2. 1:7
 - 3. 4:7
 - 4. 2:3

Question Type : MCQ

Question ID : 264330138378

Option 1 ID : 264330542120

Option 2 ID : 264330542122

Option 3 ID : 264330542119

Option 4 ID : 264330542121

Status : Answered

Chosen Option : 3

Q.10 14 और 56 का तृतीय समानुपाती ज्ञात कीजिए।

- Ans
- 1. 212
 - 2. 220
 - 3. 224
 - 4. 218

Question Type : MCQ

Question ID : 264330138379

Option 1 ID : 264330542126

Option 2 ID : 264330542124

Option 3 ID : 264330542123

Option 4 ID : 264330542125

Status : Answered

Chosen Option : 3

Q.11 एक कार शुरुआती 140 km की दूरी 10 घंटों में और अगले 260 km की दूरी 15 घंटों में तय करती है। पूरी यात्रा में कार की औसत चाल कितनी है?

- Ans
- 1. 16 km/hr
 - 2. 14 km/hr
 - 3. 15 km/hr
 - 4. 10 km/hr

Question Type : MCQ

Question ID : 264330138395

Option 1 ID : 264330542189

Option 2 ID : 264330542188

Option 3 ID : 264330542187

Option 4 ID : 264330542190

Status : Answered

Chosen Option : 1

Q.12 $15 \div 5$ of $3 - 3 \times 4 + 13$ का मान क्या है?

- Ans
- 1. 0
 - 2. 2
 - 3. 3
 - 4. 10

Question Type : MCQ

Question ID : 264330137148

Option 1 ID : 264330537235

Option 2 ID : 264330537237

Option 3 ID : 264330537238

Option 4 ID : 264330537236

Status : Answered

Chosen Option : 2

Q.13 एक त्रिभुज की ऊँचाई 56 cm है और संगत आधार, ऊँचाई का $\frac{1}{4}$ है। त्रिभुज का क्षेत्रफल ज्ञात कीजिए।

- Ans
- 1. 480 cm^2
 - 2. 440 cm^2
 - 3. 392 cm^2
 - 4. 544 cm^2

Question Type : MCQ

Question ID : 264330138387

Option 1 ID : 264330542158

Option 2 ID : 264330542157

Option 3 ID : 264330542155

Option 4 ID : 264330542156

Status : Answered

Chosen Option : 3

Q.14 नीचे दी गई तालिका में विभिन्न राज्यों में पुरुषों और महिलाओं की संख्या को दर्शाया गया है।

राज्य	पुरुष	महिला
A	50	100
B	200	150
C	300	25
D	25	50
E	125	75
F	150	250

J1 = A और B में पुरुषों की औसत संख्या का मान।

J2 = E और F में महिलाओं की औसत संख्या का मान।

(J2 - J1) का मान क्या है?

- Ans
- 1. 56.5
 - 2. 42.5
 - 3. 37.5
 - 4. 25.5

Question Type : MCQ

Question ID : 264330137621

Option 1 ID : 264330539093

Option 2 ID : 264330539092

Option 3 ID : 264330539094

Option 4 ID : 264330539091

Status : Answered

Chosen Option : 3

Q.15 A, B और C को एक कार्य पूरा करने के लिए दिया जाता है। यदि A, B और C द्वारा लिए गए समय का अनुपात 4:3:6 है, तो उनकी कार्यकुशलता का अनुपात ज्ञात कीजिए।

- Ans
- 1. 3:4:6
 - 2. 4:6:8
 - 3. 3:4:2
 - 4. 4:3:6

Question Type : MCQ

Question ID : 264330138383

Option 1 ID : 264330542141

Option 2 ID : 264330542142

Option 3 ID : 264330542140

Option 4 ID : 264330542139

Status : Answered

Chosen Option : 3

Q.16 एक दुकानदार अंकित मूल्य पर 20% का बट्टा देता है और फिर भी वह कुल मिलाकर 12% का लाभ अर्जित करता है।
जात कीजिए कि उसने अपनी वस्तु को क्रय मूल्य से कितने प्रतिशत अधिक पर अंकित किया था?

- Ans
- 1. 30%
 - 2. 20%
 - 3. 40%
 - 4. 10%

Question Type : MCQ

Question ID : 264330140998

Option 1 ID : 264330552341

Option 2 ID : 264330552339

Option 3 ID : 264330552342

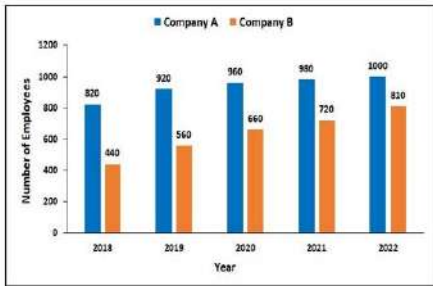
Option 4 ID : 264330552340

Status : Answered

Chosen Option : 3

Q.17 निम्नलिखित दंड आलेख में 5 वर्षों में कंपनी A और कंपनी B में कर्मचारियों की संख्या को दर्शाया गया है।

वर्ष 2018 और 2019 में कंपनी A और कंपनी B में कर्मचारियों की कुल संख्या जात कीजिए।



number of employees - कर्मचारियों की संख्या, Year - वर्ष, company A - कंपनी A , company B - कंपनी B

- Ans
- 1. 2820
 - 2. 3210
 - 3. 2860
 - 4. 2740

Question Type : MCQ

Question ID : 264330138386

Option 1 ID : 264330542154

Option 2 ID : 264330542152

Option 3 ID : 264330542151

Option 4 ID : 264330542153

Status : Answered

Chosen Option : 4

Q.18 150 मीटर × 25 मीटर का एक आयताकार बगीचा है। बगीचे के बाहर चारों ओर 10 मीटर चौड़ा एक पथ बनाया गया है। उस पथ का क्षेत्रफल कितना है?

- Ans**
- ✓ 1. 3900 metre²
 - ✗ 2. 3220 metre²
 - ✗ 3. 3700 metre²
 - ✗ 4. 3550 metre²

Question Type : **MCQ**
Question ID : **264330135058**
Option 1 ID : **264330529167**
Option 2 ID : **264330529170**
Option 3 ID : **264330529168**
Option 4 ID : **264330529169**
Status : **Answered**
Chosen Option : **1**

Q.19 कोई धनराशि साधारण ब्याज पर 14 प्रतिशत वार्षिक दर से कम-से-कम कितने पूर्ण वर्षों में स्वयं की चार गुना से अधिक हो जाएगी?

- Ans**
- ✗ 1. 20 वर्ष
 - ✗ 2. 25 वर्ष
 - ✗ 3. 29 वर्ष
 - ✓ 4. 22 वर्ष

Question Type : **MCQ**
Question ID : **264330137333**
Option 1 ID : **264330537960**
Option 2 ID : **264330537961**
Option 3 ID : **264330537962**
Option 4 ID : **264330537959**
Status : **Answered**
Chosen Option : **4**

Q.20 एक दुकानदार ने Rs. 1400 अंकित मूल्य वाली एक पुस्तक 28% के बड़े पर बेची। पुस्तक का विक्रय मूल्य ज्ञात कीजिए।

- Ans**
- ✗ 1. Rs. 2500
 - ✗ 2. Rs. 2000
 - ✓ 3. Rs. 1008
 - ✗ 4. Rs. 1500

Question Type : **MCQ**
Question ID : **264330138377**
Option 1 ID : **264330542116**
Option 2 ID : **264330542118**
Option 3 ID : **264330542115**
Option 4 ID : **264330542117**
Status : **Answered**
Chosen Option : **3**

Q.1 किन दो चिन्हों को आपस में बदलने पर, समीकरण का मान सही होगा?

$$6 - 10 \times 8 \div 5 + 7 = 15$$

- Ans
- 1. + और ÷
 - 2. ÷ और -
 - 3. × और ÷
 - 4. + और -

Question Type : MCQ

Question ID : 264330138493

Option 1 ID : 264330542581

Option 2 ID : 264330542582

Option 3 ID : 264330542580

Option 4 ID : 264330542579

Status : Answered

Chosen Option : 4

Q.2 (::) के बाईं ओर दिए गए शब्द आपस में किसी तर्क/नियम/संबंध द्वारा संबंधित हैं। समान तर्क/नियम/संबंध के आधार पर दिए गए विकल्पों में से (::) के दाईं ओर लुप्त शब्द/शब्द युग्म को चुनिए।

टैडपोल: मेंढक :: किटन: ?

- Ans
- 1. कीट
 - 2. हिरण
 - 3. कुत्ता
 - 4. बिल्ली

Question Type : MCQ

Question ID : 264330138479

Option 1 ID : 264330542523

Option 2 ID : 264330542525

Option 3 ID : 264330542526

Option 4 ID : 264330542524

Status : Answered

Chosen Option : 4

Q.3 एक निश्चित कूट भाषा में, 'EXPORT' को 'ORTEXP' लिखा जाता है। उस कूट भाषा में 'GENTLE' को कैसे लिखा जाएगा?

- Ans
- 1. TLENEG
 - 2. TLENGE
 - 3. TELNEG
 - 4. TLEGEN

Question Type : MCQ

Question ID : 264330138460

Option 1 ID : 264330542448

Option 2 ID : 264330542450

Option 3 ID : 264330542447

Option 4 ID : 264330542449

Status : Answered

Chosen Option : 4

Q.4 दी गई दो संख्याओं को आपस में बदलने पर क्रमशः समीकरण (I) और (II) का मान क्या होगा?

8 और 2

I. $3 + 6 - 8 \times 4 \div 2$

II. $4 \div 6 \times 9 + 2 - 8$

- Ans
- 1. 12 और 8
 - 2. 9 और 15
 - 3. 9 और 81
 - 4. 8 और 12

Question Type : MCQ

Question ID : 264330137383

Option 1 ID : 264330538161

Option 2 ID : 264330538159

Option 3 ID : 264330538162

Option 4 ID : 264330538160

Status : Answered

Chosen Option : 4

Q.5 पाँच बल्लेबाजों रोहित, राहुल, विराट, सूर्या और हादिक के औसत की तुलना की जाती है। सूर्या का औसत केवल एक बल्लेबाज से अधिक है। विराट का औसत रोहित से अधिक है और रोहित का औसत हादिक से अधिक है। यदि रोहित का औसत = 120 है, तो सूर्या का औसत कितना हो सकता है?

- Ans
- 1. 130
 - 2. 125
 - 3. 118
 - 4. 128

Question Type : MCQ

Question ID : 264330138486

Option 1 ID : 264330542554

Option 2 ID : 264330542552

Option 3 ID : 264330542551

Option 4 ID : 264330542553

Status : Answered

Chosen Option : 3

Q.6 निम्नलिखित प्रश्न में कुछ कथन दिए गए हैं और उन कथनों के आधार पर कुछ निष्कर्ष दिए गए हैं। आपको यह मानना है कि दिए गए कथन सत्य हैं चाहे वे समान्यतः ज्ञात तथ्यों से अलग प्रतीत होते हों। सभी निष्कर्षों को पढ़िए और फिर निश्चय कीजिए कि दिए गए निष्कर्षों में से कौन-सा निष्कर्ष तार्किक रूप से दिए गए कथनों के अनुसार है।

कथन:

I. कुछ V, P हैं।

II. कुछ F, V हैं।

निष्कर्ष:

I. कुछ F, P हैं।

II. कुछ V, F हैं।

Ans 1. दोनों निष्कर्ष I और II कथनों के अनुसार हैं

2. केवल निष्कर्ष I कथनों के अनुसार है

3. केवल निष्कर्ष II कथनों के अनुसार है

4. कोई भी निष्कर्ष कथनों के अनुसार नहीं है

Question Type : **MCQ**

Question ID : **264330138487**

Option 1 ID : **264330542557**

Option 2 ID : **264330542555**

Option 3 ID : **264330542556**

Option 4 ID : **264330542558**

Status : **Answered**

Chosen Option : **3**

Q.7 उस विकल्प आकृति को चुनिए जिसमें दी गई आकृति निहित है। (घूर्णन की अनुमति नहीं है)

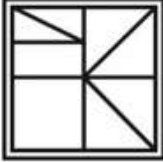


Ans

✗ 1.



✗ 2.



✓ 3.



✗ 4.



Question Type : MCQ

Question ID : 264330137534

Option 1 ID : 264330538746

Option 2 ID : 264330538745

Option 3 ID : 264330538743

Option 4 ID : 264330538744

Status : Answered

Chosen Option : 3

Q.8 निम्नलिखित प्रश्न में, दी गई श्रृंखला में लुप्त संख्या को चुनिए ।

2, 5, 14, 41, 122, ?

Ans

✗ 1. 380

✗ 2. 370

✗ 3. 368

✓ 4. 365

Question Type : MCQ

Question ID : 264330138490

Option 1 ID : 264330542570

Option 2 ID : 264330542568

Option 3 ID : 264330542569

Option 4 ID : 264330542567

Status : Answered

Chosen Option : 4

Q.9 (::) के बाईं ओर दिए गए शब्द आपस में किसी तर्क/नियम/संबंध द्वारा संबंधित हैं। समान तर्क/नियम/संबंध के आधार पर दिए गए विकल्पों में से (::) के दाईं ओर लुप्त शब्द/शब्द युग्म को चुनिए।

समय : सेकंड :: ?

Ans

- ✗ 1. जूल : कार्य
- ✗ 2. न्यूटन : बल
- ✗ 3. दाब : लीटर
- ✓ 4. शक्ति : वाट

Question Type : MCQ

Question ID : 264330138480

Option 1 ID : 264330542529

Option 2 ID : 264330542528

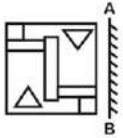
Option 3 ID : 264330542527

Option 4 ID : 264330542530

Status : Answered

Chosen Option : 4

Q.10 यदि एक दर्पण को रेखा AB पर रखा जाए, तो दी गई विकल्प आकृतियों में से कौन-सी आकृति प्रश्न आकृति का सही प्रतिबिम्ब होगी?



Ans

- ✗ 1.
- ✗ 2.
- ✗ 3.
- ✓ 4.

Question Type : MCQ

Question ID : 264330137535

Option 1 ID : 264330538749

Option 2 ID : 264330538748

Option 3 ID : 264330538750

Option 4 ID : 264330538747

Status : Answered

Chosen Option : 4

Q.11 एक निश्चित कूट भाषा में, 'She is my niece' को 'Co Pv Zs Mn' लिखा जाता है, 'That is my bike' को 'Zs Pt Pv Ga' लिखा जाता है, 'She is your daughter' को 'Co Pv Ex Yz' लिखा जाता है। इस कूट भाषा में 'niece' को कैसे लिखा जाएगा?

- Ans
- 1. Co
 - 2. Zs
 - 3. Pv
 - 4. Mn

Question Type : MCQ

Question ID : 264330133566

Option 1 ID : 264330523288

Option 2 ID : 264330523287

Option 3 ID : 264330523289

Option 4 ID : 264330523290

Status : Answered

Chosen Option : 4

Q.12 उस विकल्प को चुनिए जिसमें समुच्चय की संख्याएँ वही संबंध साझा करती हैं जो दिए गए समुच्चय में संख्याओं द्वारा साझा किया जाता है। (ध्यान दें: संख्याओं को उनके घटक अंकों में अलग-अलग किए बिना, पूर्ण संख्याओं पर संक्रियाएँ की जानी चाहिए। उदा. 13 - 13 पर संक्रियाएँ जैसे 13 को जोड़ना /घटाना /गुणा करना आदि किया जा सकता है। 13 को 1 और 3 में अलग-अलग करने की और फिर 1 और 3 पर गणितीय संक्रियाएँ करने की अनुमति नहीं है)

(10, 20, 100)

(50, 5, 125)

- Ans
- 1. (14, 10, 35)
 - 2. (20, 5, 60)
 - 3. (40, 4, 150)
 - 4. (12, 10, 60)

Question Type : MCQ

Question ID : 264330138492

Option 1 ID : 264330542576

Option 2 ID : 264330542577

Option 3 ID : 264330542578

Option 4 ID : 264330542575

Status : Answered

Chosen Option : 4

Q.13 उस विकल्प को चुनिए जो पाँचवीं संख्या से ठीक उसी प्रकार संबंधित है जिस प्रकार दूसरी संख्या पहली संख्या से संबंधित है और चौथी संख्या तीसरी संख्या से संबंधित है।

9 : 730 :: 10 : 1001 :: 8 : ?

- Ans
- 1. 513
 - 2. 514
 - 3. 516
 - 4. 517

Question Type : MCQ

Question ID : 264330137123

Option 1 ID : 264330537135

Option 2 ID : 264330537136

Option 3 ID : 264330537137

Option 4 ID : 264330537138

Status : Answered

Chosen Option : 1

Q.14 एक निश्चित कूट भाषा में, 'JPMNO' को '73562' लिखा जाता है, 'AMNBD' को '28954' लिखा जाता है, 'JNACQ' को '12430' लिखा जाता है। उस कूट भाषा में 'B' को कैसे लिखा जाएगा?

- Ans
- 1. 2
 - 2. 8
 - 3. 4
 - 4. 5

Question Type : MCQ

Question ID : 264330135566

Option 1 ID : 264330531163

Option 2 ID : 264330531164

Option 3 ID : 264330531166

Option 4 ID : 264330531165

Status : Answered

Chosen Option : 4

Q.15 एक श्रृंखला दी गई है जिसमें एक पद लुप्त है। दिए गए विकल्पों में से उस सही विकल्प को चुनिए जो श्रृंखला को पूरा करेगा।

ASBQ, XOYM, UKVI, RGSE, ?

- Ans
- 1. NCPA
 - 2. OBQA
 - 3. OCPB
 - 4. OCPA

Question Type : MCQ

Question ID : 264330138477

Option 1 ID : 264330542518

Option 2 ID : 264330542516

Option 3 ID : 264330542517

Option 4 ID : 264330542515

Status : Answered

Chosen Option : 4

Q.16 सात लड़कियाँ मानसी, श्वेता, मोनिका, पायल, आरती, काजल और लक्ष्मी एक वृत्ताकार मेज के चारों ओर केंद्र के विपरीत दिशा की ओर मुख करके बैठी हैं (परंतु जरूरी नहीं कि वे इसी क्रम में बैठी हों)। आरती, काजल के बाईं ओर से दूसरे स्थान पर है। मोनिका, काजल के दाईं ओर से तीसरे स्थान पर है। मानसी, काजल की निकटतम पड़ोसी नहीं है। लक्ष्मी, मानसी के बाईं ओर से दूसरे स्थान पर है। पायल, लक्ष्मी की निकटतम पड़ोसी नहीं है। लक्ष्मी के बाईं ओर से दूसरे स्थान पर कौन है?

- Ans
- 1. मानसी
 - 2. आरती
 - 3. काजल
 - 4. पायल

Question Type : MCQ

Question ID : 264330138485

Option 1 ID : 264330542550

Option 2 ID : 264330542547

Option 3 ID : 264330542548

Option 4 ID : 264330542549

Status : Answered

Chosen Option : 3

Q.17 निम्नलिखित प्रश्न में, दी गई श्रृंखला में लुप्त संख्या को चुनिए।

111, 128, 145, 162, 179, ?

- Ans
- 1. 195
 - 2. 190
 - 3. 194
 - 4. 196

Question Type : MCQ

Question ID : 264330137121

Option 1 ID : 264330537129

Option 2 ID : 264330537127

Option 3 ID : 264330537128

Option 4 ID : 264330537130

Status : Answered

Chosen Option : 4

Q.18 निम्नलिखित प्रश्न में कुछ कथन दिए गए हैं और उन कथनों के आधार पर कुछ निष्कर्ष दिए गए हैं। आपको यह मानना है कि दिए गए कथन सत्य हैं चाहे वे समान्यतः ज्ञात तथ्यों से अलग प्रतीत होते हों। सभी निष्कर्षों को पढ़िए और फिर निश्चय कीजिए कि दिए गए निष्कर्षों में से कौन-सा निष्कर्ष तार्किक रूप से दिए गए कथनों के अनुसार है।

कथन:

I. सभी K, M हैं।

II. कुछ K, Z हैं।

निष्कर्ष:

I. सभी M, Z हैं।

II. सभी M, K हैं।

III. कुछ M, K हैं।

- Ans
- 1. कोई भी निष्कर्ष कथनों के अनुसार नहीं है
 - 2. केवल निष्कर्ष III कथनों के अनुसार है
 - 3. सभी निष्कर्ष कथनों के अनुसार हैं
 - 4. दोनों निष्कर्ष I और III कथनों के अनुसार हैं

Question Type : MCQ

Question ID : 264330138488

Option 1 ID : 264330542562

Option 2 ID : 264330542561


Option 3 ID : 264330542560

Option 4 ID : 264330542559

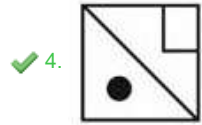
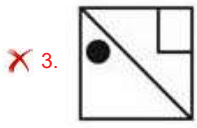
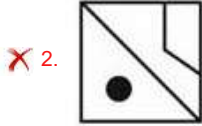
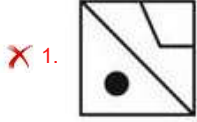
Status : Answered

Chosen Option : 2

Q.19 कौन-सी उत्तर आकृति प्रश्न आकृति में दिए गए पैटर्न को पूरा करेगी?



Ans



Question Type : MCQ

Question ID : 264330138497

Option 1 ID : 264330542598

Option 2 ID : 264330542596

Option 3 ID : 264330542597

Option 4 ID : 264330542595

Status : Answered

Chosen Option : 4

Q.20 सात लड़के लक्ष्मण, मोहन, बिट्टू, सोहिल, राहुल, राम और रमेश एक वृत्ताकार मेज के चारों ओर केंद्र की ओर मुख करके बैठे हैं (परंतु जरूरी नहीं कि वे इसी क्रम में बैठें हों)। सोहिल, बिट्टू के बाईं ओर से तीसरे स्थान पर है। मोहन, बिट्टू के दाईं ओर से दूसरे स्थान पर है। राम, रमेश के दाईं ओर से तीसरे स्थान पर है। रमेश, मोहन का निकटतम पड़ोसी नहीं है। लक्ष्मण, राहुल के बाईं ओर से तीसरे स्थान पर है। राम के ठीक बाईं ओर कौन बैठा है?

Ans

✓ 1. बिट्टू

✗ 2. रमेश

✗ 3. मोहन

✗ 4. लक्ष्मण

Question Type : MCQ

Question ID : 264330138484

Option 1 ID : 264330542543

Option 2 ID : 264330542546

Option 3 ID : 264330542544

Option 4 ID : 264330542545

Status : Answered

Chosen Option : 1

Q.1 भारतीय संविधान के अनुच्छेद 25 से 28 _____ का प्रावधान करते हैं।

- Ans
- 1. शोषण के विरुद्ध अधिकार
 - 2. संस्कृतिक और शैक्षिक अधिकार
 - 3. समानता के अधिकार
 - 4. धार्मिक स्वतंत्रता के अधिकार

Question Type : MCQ
Question ID : 264330138258
Option 1 ID : 264330541640
Option 2 ID : 264330541642
Option 3 ID : 264330541639
Option 4 ID : 264330541641
Status : Answered
Chosen Option : 4

Q.2 निम्नलिखित में से किस ग्रह को "भोर का तारा (morning star)" भी कहा जाता है?

- Ans
- 1. शुक्र
 - 2. पृथ्वी
 - 3. नेपच्यून
 - 4. बृहस्पति

Question Type : MCQ
Question ID : 264330137044
Option 1 ID : 264330536819
Option 2 ID : 264330536820
Option 3 ID : 264330536821
Option 4 ID : 264330536822
Status : Answered
Chosen Option : 4

Q.3 मानक जनगणना परिभाषा के अनुसार, मुख्य श्रमिक वह व्यक्ति है जो एक वर्ष में कम से कम _____ कार्य करता है।

- Ans
- 1. 190 दिन
 - 2. 223 दिन
 - 3. 150 दिन
 - 4. 183 दिन

Question Type : MCQ
Question ID : 264330138668
Option 1 ID : 264330543281
Option 2 ID : 264330543282
Option 3 ID : 264330543279
Option 4 ID : 264330543280
Status : Marked For Review
Chosen Option : 1

Q.4 भारत में वित्तीय वर्ष की अवधि कितनी है?

Ans 1.

प्रत्येक वर्ष 1 जनवरी से प्रारंभ होकर अगले वर्ष 31 दिसंबर तक

2.

प्रत्येक वर्ष 1 अप्रैल से प्रारंभ होकर अगले वर्ष 31 मार्च तक

3.

प्रत्येक वर्ष 1 जनवरी से से प्रारंभ होकर उसी वर्ष 31 दिसंबर तक

4.

प्रत्येक वर्ष 1 अप्रैल से प्रारंभ होकर उसी वर्ष 31 दिसंबर तक

Question Type : MCQ

Question ID : 264330134055

Option 1 ID : 264330525245

Option 2 ID : 264330525243

Option 3 ID : 264330525246

Option 4 ID : 264330525244

Status : Answered

Chosen Option : 2

Q.5 प्रधान मंत्री आवास योजना- शहरी किस केंद्रीय मंत्रालय द्वारा शुरू की गई थी?

Ans 1. आवास और शहरी मामलों के मंत्रालय

2. ग्रामीण विकास मंत्रालय

3. वित्त मंत्रालय

4. मानव संसाधन विकास मंत्रालय

Question Type : MCQ

Question ID : 264330138255

Option 1 ID : 264330541628

Option 2 ID : 264330541629

Option 3 ID : 264330541630

Option 4 ID : 264330541627

Status : Marked For Review

Chosen Option : 4

Q.6 इस जानी-मानी भारतीय संगीत क्षेत्र से जुड़ी शख्सियत को पहचानें।

वर्ष 2011 में, गिनीज बुक ऑफ वर्ल्ड रिकॉर्ड्स (Guinness Book of World Records) ने आधिकारिक तौर पर उन्हें संगीत इतिहास में सबसे अधिक गाने रिकॉर्ड करने वाली कलाकार के रूप में मानित किया था।

Ans 1. अलका याग्निंक

2. उषा उत्थुप

3. आशा भोसले

4. श्रेया घोषाल

Question Type : MCQ

Question ID : 264330138252

Option 1 ID : 264330541618

Option 2 ID : 264330541615

Option 3 ID : 264330541617

Option 4 ID : 264330541616

Status : Not Answered

Chosen Option : --

Q.7 सरोजा वैद्यनाथन (Saroja Vaidyanathan) को _____ में शास्त्रीय नृत्य के लिए कालिदास सम्मान मिला था।

- Ans
- 1. 2002-03
 - 2. 2020-21
 - 3. 2001-02
 - 4. 2009-10

Question Type : MCQ

Question ID : 264330134050

Option 1 ID : 264330525223

Option 2 ID : 264330525225

Option 3 ID : 264330525224

Option 4 ID : 264330525226

Status : Not Answered

Chosen Option : --

Q.8 श्रीजेश पी.आर. जिन्हें "मेजर ध्यानचंद खेल रत्न पुरस्कार 2021" से सम्मानित किया गया था, किस खेल से संबंधित हैं?

- Ans
- 1. हॉकी
 - 2. फुटबॉल
 - 3. कुश्ती
 - 4. मुक्केबाज़ी

Question Type : MCQ

Question ID : 264330138249

Option 1 ID : 264330541605

Option 2 ID : 264330541606

Option 3 ID : 264330541604

Option 4 ID : 264330541603

Status : Answered

Chosen Option : 3

Q.9 बेरीबेरी (Beriberi) निम्नलिखित में से किसकी कमी से होता है?

- Ans
- 1. विटामिन B1
 - 2. आयोडीन
 - 3. विटामिन D
 - 4. विटामिन C

Question Type : MCQ

Question ID : 264330138259

Option 1 ID : 264330541643

Option 2 ID : 264330541646

Option 3 ID : 264330541645

Option 4 ID : 264330541644

Status : Answered

Chosen Option : 1

Q.10 धोलावीरा का प्राचीन शहर, किस राज्य में स्थित है?

- Ans
- 1. राजस्थान
 - 2. कर्नाटक
 - 3. मध्यप्रदेश
 - 4. गुजरात

Question Type : MCQ
Question ID : 264330137389
Option 1 ID : 264330538184
Option 2 ID : 264330538186
Option 3 ID : 264330538183
Option 4 ID : 264330538185
Status : Answered
Chosen Option : 4

Q.11 निम्नलिखित में से किस मुगल शासक ने आलमगीर, विश्व विजेता की उपाधि धारण की थी?

- Ans
- 1. शाहजहाँ
 - 2. औरंगज़ेब
 - 3. बाबर
 - 4. अकबर

Question Type : MCQ
Question ID : 264330137050
Option 1 ID : 264330536844
Option 2 ID : 264330536843
Option 3 ID : 264330536846
Option 4 ID : 264330536845
Status : Answered
Chosen Option : 3

Q.12 निम्नलिखित में से कौन-सा राष्ट्रीय उद्यान महाराष्ट्र में स्थित नहीं है?

- Ans
- 1. नवेगाँव राष्ट्रीय उद्यान
 - 2. गुगामल राष्ट्रीय उद्यान
 - 3. बांधवगढ़ राष्ट्रीय उद्यान
 - 4. ताडोबा राष्ट्रीय उद्यान

Question Type : MCQ
Question ID : 264330137043
Option 1 ID : 264330536818
Option 2 ID : 264330536817
Option 3 ID : 264330536816
Option 4 ID : 264330536815
Status : Answered
Chosen Option : 3

Q.13 भारतीय मसाला बोर्ड (Spices Board of India) का मुख्यालय कहाँ स्थित है?

- Ans
- ✓ 1. कोच्चि (केरल)
 - ✗ 2. बेंगलुरु (कर्नाटक)
 - ✗ 3. गुंटूर (आंध्रप्रदेश)
 - ✗ 4. पुणे (महाराष्ट्र)

Question Type : MCQ

Question ID : 264330134040

Option 1 ID : 264330525185

Option 2 ID : 264330525183

Option 3 ID : 264330525184

Option 4 ID : 264330525186

Status : Answered

Chosen Option : 1

Q.14 1897 में रामकृष्ण मिशन की स्थापना किसने की थी?

- Ans
- ✗ 1. रामकृष्ण परमहंस
 - ✗ 2. केशव चंद्र सेन
 - ✓ 3. स्वामी विवेकानंद
 - ✗ 4. देवेन्द्रनाथ टैगोर

Question Type : MCQ

Question ID : 264330137702

Option 1 ID : 264330539418

Option 2 ID : 264330539417

Option 3 ID : 264330539416

Option 4 ID : 264330539415

Status : Answered

Chosen Option : 4

Q.15 भारत के किसी भी राज्य का प्रमुख एक _____ होता है।

- Ans
- ✗ 1. मुख्यमंत्री
 - ✗ 2. राज्य निर्वाचन आयुक्त
 - ✗ 3. उच्च न्यायालय का मुख्य न्यायाधीश
 - ✓ 4. राज्यपाल

Question Type : MCQ

Question ID : 264330137398

Option 1 ID : 264330538219

Option 2 ID : 264330538222

Option 3 ID : 264330538220

Option 4 ID : 264330538221

Status : Marked For Review

Chosen Option : 4

Q.16 भारत की पार्लियामेंट को _____ भी कहा जाता है।

- Ans
- 1. विधान सभा
 - 2. लोक सभा
 - 3. संसद
 - 4. सैनेट

Question Type : MCQ
Question ID : 264330134630
Option 1 ID : 264330527475
Option 2 ID : 264330527476
Option 3 ID : 264330527477
Option 4 ID : 264330527478
Status : Answered
Chosen Option : 3

Q.17 हिमालय के सबसे उत्तरी भाग में स्थित शृंखला को _____ कहते हैं।

- Ans
- 1. पूर्वांचल
 - 2. अरावली पर्वतमाला
 - 3. आंतरिक हिमालय
 - 4. शिवालिक पर्वतमाला

Question Type : MCQ
Question ID : 264330138264
Option 1 ID : 264330541666
Option 2 ID : 264330541665
Option 3 ID : 264330541663
Option 4 ID : 264330541664
Status : Answered
Chosen Option : 4

Q.18 जगोई और चोलोम _____ नृत्य की दो मुख्य शैलियाँ सौम्य हैं।

- Ans
- 1. कथकली
 - 2. मणिपुरी
 - 3. कथक
 - 4. भरतनाट्यम

Question Type : MCQ
Question ID : 264330138246
Option 1 ID : 264330541594
Option 2 ID : 264330541593
Option 3 ID : 264330541592
Option 4 ID : 264330541591
Status : Answered
Chosen Option : 3

Q.19 निम्नलिखित में से किसने फॉर्मूला 1 यूनाइटेड स्टेट्स ग्रां प्री 2022 जीता है?

- Ans
- 1. चार्ल्स लेक्लर्क (Charles Leclerc)
 - 2. कार्लोस सैंज जूनियर (Carlos Sainz Jr.)
 - 3. मैक्स वेस्टर्पेन (Max Verstappen)
 - 4. लैंडो नॉरिस (Lando Norris)

Question Type : MCQ
Question ID : 264330137059
Option 1 ID : 264330536882
Option 2 ID : 264330536880
Option 3 ID : 264330536881
Option 4 ID : 264330536879
Status : Answered
Chosen Option : 1

Q.20 वर्ष 1817 में "द हिस्ट्री ऑफ ब्रिटिश इंडिया (The History of British India)" को किसने लिखा था?

- Ans
- 1. जेम्स मिल
 - 2. रमेश चंद्र दत्त
 - 3. दादाभाई नौरोजी
 - 4. विलियम बैंटिक

Question Type : MCQ
Question ID : 264330137410
Option 1 ID : 264330538267
Option 2 ID : 264330538268
Option 3 ID : 264330538270
Option 4 ID : 264330538269
Status : Marked For Review
Chosen Option : 3

Q.21 Which among the following alloys is a combination of gold and silver?

- Ans
- 1. Electrum
 - 2. Bronze
 - 3. Solder
 - 4. Constantan

Question Type : MCQ
Question ID : 264330137041
Option 1 ID : 264330536807
Option 2 ID : 264330536808
Option 3 ID : 264330536809
Option 4 ID : 264330536810
Status : Answered
Chosen Option : 4

Q.22 दशहरा उत्सव को _____ के नाम से भी जाना जाता है।

- Ans
- 1. वैकुंठ अष्टमी (Vaikunthashtami)
 - 2. विजयादशमी(Vijaydashami)
 - 3. जन्माष्टमी (Janmashami)
 - 4. संक्रांति (Sankranti)

Question Type : MCQ
Question ID : 264330137689
Option 1 ID : 264330539363
Option 2 ID : 264330539365
Option 3 ID : 264330539366
Option 4 ID : 264330539364
Status : Answered
Chosen Option : 2

Q.23 निम्नलिखित में से कौन "एन ऑटोबायोग्राफी: टुवर्ड फ्रीडम (An Autobiography: Toward Freedom)" पुस्तक के लेखक हैं?

- Ans
- 1. लाला लाजपत राय
 - 2. इंदिरा गांधी
 - 3. महात्मा गांधी
 - 4. जवाहरलाल नेहरू

Question Type : MCQ
Question ID : 264330134048
Option 1 ID : 264330525217
Option 2 ID : 264330525218
Option 3 ID : 264330525216
Option 4 ID : 264330525215
Status : Not Answered
Chosen Option : --

Q.24 निम्नलिखित में से कौन-सी बेरोजगारी किसी अर्थव्यवस्था में मंदी का परिणाम है?

- Ans
- 1. चक्रीय बेरोजगारी
 - 2. संरचनात्मक बेरोजगारी
 - 3. मौसमी बेरोजगारी
 - 4. प्रतिरोधात्मक बेरोजगारी

Question Type : MCQ
Question ID : 264330137699
Option 1 ID : 264330539403
Option 2 ID : 264330539404
Option 3 ID : 264330539406
Option 4 ID : 264330539405
Status : Not Answered
Chosen Option : --

Q.25 सितंबर 2022 में, किसे भारत के नए महान्यायवादी के रूप में नियुक्त किया गया है?

- Ans 1. आर. वैक्टरमणी
 2. जगदीप धनखड़
 3. कैलाश वासदेव
 4. राम जेठमलानी

Question Type : MCQ
Question ID : 264330138254
Option 1 ID : 264330541624
Option 2 ID : 264330541625
Option 3 ID : 264330541626
Option 4 ID : 264330541623
Status : Answered
Chosen Option : 1

Section : English Language and Comprehension

Q.1 In the following question, out of the given four alternatives, select the alternative which best expresses the meaning of the Idiom/Phrase.

In the long run.

- Ans 1. In the end
 2. Lack of energy
 3. Long walk
 4. In tough times

Question Type : MCQ
Question ID : 264330135328
Option 1 ID : 264330530219
Option 2 ID : 264330530220
Option 3 ID : 264330530222
Option 4 ID : 264330530221
Status : Marked For Review
Chosen Option : 3

Q.2 Four words are given, out of which three words are spelt correctly. Choose the incorrectly spelt word.

- Ans 1. LICENSE
 2. NECCESARY
 3. INDISPENSABLE
 4. OCCASION

Question Type : MCQ
Question ID : 264330136635
Option 1 ID : 264330535264
Option 2 ID : 264330535265
Option 3 ID : 264330535263
Option 4 ID : 264330535266
Status : Answered
Chosen Option : 2

Q.3 Select the most appropriate word for the given group of words.

A person who is both open and shy

- Ans
- 1. Introvert
 - 2. Extrovert
 - 3. Ambivert
 - 4. Controvert

Question Type : **MCQ**
Question ID : **264330136628**
Option 1 ID : **264330535236**
Option 2 ID : **264330535235**
Option 3 ID : **264330535237**
Option 4 ID : **264330535238**
Status : **Answered**
Chosen Option : **3**

Q.4 Select the most appropriate antonym of the given word.

Rigid

- Ans
- 1. Satiation
 - 2. Flexible
 - 3. Distaste
 - 4. Superior

Question Type : **MCQ**
Question ID : **264330135811**
Option 1 ID : **264330532115**
Option 2 ID : **264330532118**
Option 3 ID : **264330532116**
Option 4 ID : **264330532117**
Status : **Answered**
Chosen Option : **2**

Q.5 Select the most appropriate synonym to substitute the bracketed word in the given sentence.
No need to read (voluminous) campaign literature, or pore through printed recommendations.

- Ans
- 1. Micro
 - 2. Reverberate
 - 3. Sparkling
 - 4. Commodious

Question Type : **MCQ**
Question ID : **264330136074**
Option 1 ID : **264330533108**
Option 2 ID : **264330533107**
Option 3 ID : **264330533109**
Option 4 ID : **264330533110**
Status : **Not Answered**
Chosen Option : **--**

Q.6 Improve the underlined part of the sentence. Choose 'No improvement' as an answer if the sentence is grammatically correct.

He held the railing as he walked downed the stairs.

- Ans**
- 1. No improvement
 - 2. walked downs
 - 3. walk down
 - 4. walked down

Question Type : **MCQ**
Question ID : **264330136772**
Option 1 ID : **264330535794**
Option 2 ID : **264330535793**
Option 3 ID : **264330535792**
Option 4 ID : **264330535791**
Status : **Answered**
Chosen Option : **4**

Q.7 Select the wrongly spelt word.

- Ans**
- 1. Sully
 - 2. Depravity
 - 3. Morelity
 - 4. Arsenal

Question Type : **MCQ**
Question ID : **264330136054**
Option 1 ID : **264330533034**
Option 2 ID : **264330533032**
Option 3 ID : **264330533031**
Option 4 ID : **264330533033**
Status : **Answered**
Chosen Option : **3**

Q.8 Select the word segment that substitutes (replaces) the bracketed word segment correctly and completes the sentence meaningfully. Select the option 'no correction required' if the sentence is correct as given.

One of the main climbing routes, approaches the summit from the southeast (in the Nepal).

- Ans**
- 1. in Nepal
 - 2. at the Nepal
 - 3. from the Nepal
 - 4. No correction required

Question Type : **MCQ**
Question ID : **264330136644**
Option 1 ID : **264330535301**
Option 2 ID : **264330535299**
Option 3 ID : **264330535300**
Option 4 ID : **264330535302**
Status : **Answered**
Chosen Option : **1**

Q.9 Find the part of the given sentence that has an error in it. If there is no error, choose 'No error'.

I hope that we will arrive at the ideal trade-off soon.

- Ans**
- 1. the ideal trade-off soon.
 - 2. we will arrive at
 - 3. I hope that
 - 4. No error

Question Type : **MCQ**

Question ID : **264330136769**

Option 1 ID : **264330535781**

Option 2 ID : **264330535780**

Option 3 ID : **264330535779**

Option 4 ID : **264330535782**

Status : **Answered**

Chosen Option : **2**

Q.10 The statement below has been given with bracketed text. Select the option with correct Idiom for the bracketed text.

Susie (has such strong resemblance to) Kate Winslet that sometimes people would ask her for her autograph.

- Ans**
- 1. gone bananas
 - 2. jack of all trades
 - 3. dead ringer
 - 4. pound the pavement

Question Type : **MCQ**

Question ID : **264330136634**

Option 1 ID : **264330535259**

Option 2 ID : **264330535261**

Option 3 ID : **264330535262**

Option 4 ID : **264330535260**

Status : **Answered**

Chosen Option : **2**

Q.11 Select the most appropriate option to fill in the blank.

The man who is supposed to be protecting them is somehow their fiercest and most _____ enemy.

- Ans**
- 1. quotidian
 - 2. implacable
 - 3. pedestrian
 - 4. ostentatious

Question Type : **MCQ**

Question ID : **264330136055**

Option 1 ID : **264330533037**

Option 2 ID : **264330533038**

Option 3 ID : **264330533036**

Option 4 ID : **264330533035**

Status : **Answered**

Chosen Option : **3**

Q.12 Select the most appropriate option to fill in the blank.

Before about 1830, _____ sermons, tracts and addresses routinely broached female intemperance.

- Ans**
- 1. temperance
 - 2. congruence
 - 3. confluence
 - 4. affluence

Question Type : **MCQ**
Question ID : **264330136064**
Option 1 ID : **264330533072**
Option 2 ID : **264330533074**
Option 3 ID : **264330533071**
Option 4 ID : **264330533073**
Status : **Answered**
Chosen Option : **1**

Q.13 Find the part of the given sentence that has an error in it. If there is no error, choose 'No error'.

He had to rebel against his father to became a musician.

- Ans**
- 1. against his father to
 - 2. No error
 - 3. became a musician.
 - 4. He had to rebel

Question Type : **MCQ**
Question ID : **264330134720**
Option 1 ID : **264330527836**
Option 2 ID : **264330527838**
Option 3 ID : **264330527837**
Option 4 ID : **264330527835**
Status : **Marked For Review**
Chosen Option : **4**

Q.14 Improve the underlined part of the sentence. Choose 'No improvement' as an answer if the sentence is grammatically correct.

He enlisting in the army and went to war when he was only eighteen.

- Ans**
- 1. No improvement
 - 2. enlist in army
 - 3. enlisted in the army
 - 4. enlisted at the army

Question Type : **MCQ**
Question ID : **264330135182**
Option 1 ID : **264330529662**
Option 2 ID : **264330529660**
Option 3 ID : **264330529661**
Option 4 ID : **264330529659**
Status : **Answered**
Chosen Option : **3**

Q.15 Select the most appropriate synonym of the given word.

Fetish

- Ans
- ✓ 1. Desire
 - ✗ 2. Requirement
 - ✗ 3. Awkward
 - ✗ 4. Learning

Question Type : MCQ
Question ID : 264330136629
Option 1 ID : 264330535240
Option 2 ID : 264330535241
Option 3 ID : 264330535242
Option 4 ID : 264330535239
Status : Answered
Chosen Option : 3

Q.16 Identify the segment that contains a grammatical error. If there is no error, select 'No error'.

Before Jerry could stop him, Daniel / bounding off the bed, seized Jerry's / desk lamp, and started beating himself.

- Ans
- ✗ 1. No error
 - ✓ 2. bounding off the bed, seized Jerry's
 - ✗ 3. desk lamp, and started beating himself.
 - ✗ 4. Before Jerry could stop him, Daniel

Question Type : MCQ
Question ID : 264330136615
Option 1 ID : 264330535190
Option 2 ID : 264330535188
Option 3 ID : 264330535189
Option 4 ID : 264330535187
Status : Answered
Chosen Option : 2

Q.17 Choose the word that can substitute the given group of words.

A portable case for holding papers, drawing etc.

- Ans
- ✗ 1. Cache
 - ✗ 2. Archives
 - ✗ 3. Creche
 - ✓ 4. Portfolio

Question Type : MCQ
Question ID : 264330135322
Option 1 ID : 264330530195
Option 2 ID : 264330530197
Option 3 ID : 264330530196
Option 4 ID : 264330530198
Status : Answered
Chosen Option : 4

Q.18 Select the word from the options which is exactly opposite in meaning to the bracketed word given in the sentence below.

The company has responded (sluggishly) to these changes in technology.

- Ans**
- 1. Similarly
 - 2. Apathetically
 - 3. Promptly
 - 4. Lethargically

Question Type : **MCQ**
Question ID : **264330136632**
Option 1 ID : **264330535254**
Option 2 ID : **264330535252**
Option 3 ID : **264330535251**
Option 4 ID : **264330535253**
Status : **Marked For Review**
Chosen Option : **2**

Q.19 Fill in the blank with the most appropriate option.

Societies need to develop highly _____ behavioural rules for survival.

- Ans**
- 1. matched
 - 2. adopted
 - 3. readjusted
 - 4. adaptive

Question Type : **MCQ**
Question ID : **264330136638**
Option 1 ID : **264330535278**
Option 2 ID : **264330535277**
Option 3 ID : **264330535275**
Option 4 ID : **264330535276**
Status : **Answered**
Chosen Option : **4**

Q.20 Fill in the blank with the most appropriate option.

At first, it looked as _____ Uncle Vernon would manage to gloss the whole thing over.

- Ans**
- 1. thought
 - 2. through
 - 3. though
 - 4. throughout

Question Type : **MCQ**
Question ID : **264330136619**
Option 1 ID : **264330535206**
Option 2 ID : **264330535203**
Option 3 ID : **264330535205**
Option 4 ID : **264330535204**
Status : **Answered**
Chosen Option : **4**

Comprehension:

In the following passage some words have been deleted. Fill in the blanks with the help of the alternatives given. Select the most appropriate option for each number.

If you enjoy (1) _____ crime shows on TV, you know that fingerprints play a large role in (2) _____ people. But, you might be (3) _____ to find out that using fingerprints for identification is not a new science. In fact, it is very old (4) _____ back at least as far as 1885-1913 B.C.E. In Babylon, when people agreed to a business contract, they pressed their fingerprints into the clay in which the contract was written. (5) _____ have also been found on clay seals from ancient China.

SubQuestion No : 21

Q.21 Select the most appropriate option to fill in the blank No. 1.

- Ans**
- 1. watching
 - 2. calling out
 - 3. marking
 - 4. writing

Question Type : **MCQ**
Question ID : **264330135802**
Option 1 ID : **264330532081**
Option 2 ID : **264330532079**
Option 3 ID : **264330532082**
Option 4 ID : **264330532080**
Status : **Answered**
Chosen Option : **1**

Comprehension:

In the following passage some words have been deleted. Fill in the blanks with the help of the alternatives given. Select the most appropriate option for each number.

If you enjoy (1) _____ crime shows on TV, you know that fingerprints play a large role in (2) _____ people. But, you might be (3) _____ to find out that using fingerprints for identification is not a new science. In fact, it is very old (4) _____ back at least as far as 1885-1913 B.C.E. In Babylon, when people agreed to a business contract, they pressed their fingerprints into the clay in which the contract was written. (5) _____ have also been found on clay seals from ancient China.

SubQuestion No : 22

Q.22 Select the most appropriate option to fill in the blank No. 2.

- Ans**
- 1. masking
 - 2. pertaining
 - 3. chortling
 - 4. identifying

Question Type : **MCQ**
Question ID : **264330135803**
Option 1 ID : **264330532084**
Option 2 ID : **264330532086**
Option 3 ID : **264330532085**
Option 4 ID : **264330532083**
Status : **Answered**
Chosen Option : **4**

Comprehension:

In the following passage some words have been deleted. Fill in the blanks with the help of the alternatives given. Select the most appropriate option for each number.

If you enjoy (1) _____ crime shows on TV, you know that fingerprints play a large role in (2) _____ people. But, you might be (3) _____ to find out that using fingerprints for identification is not a new science. In fact, it is very old (4) _____ back at least as far as 1885-1913 B.C.E. In Babylon, when people agreed to a business contract, they pressed their fingerprints into the clay in which the contract was written. (5) _____ have also been found on clay seals from ancient China.

SubQuestion No : 23

Q.23 Select the most appropriate option to fill in the blank No. 3.

- Ans
- 1. certain
 - 2. blocked
 - 3. calculable
 - 4. surprised

Question Type : **MCQ**

Question ID : **264330135804**

Option 1 ID : **264330532088**

Option 2 ID : **264330532089**

Option 3 ID : **264330532087**

Option 4 ID : **264330532090**

Status : **Answered**

Chosen Option : **4**

Comprehension:

In the following passage some words have been deleted. Fill in the blanks with the help of the alternatives given. Select the most appropriate option for each number.

If you enjoy (1) _____ crime shows on TV, you know that fingerprints play a large role in (2) _____ people. But, you might be (3) _____ to find out that using fingerprints for identification is not a new science. In fact, it is very old (4) _____ back at least as far as 1885-1913 B.C.E. In Babylon, when people agreed to a business contract, they pressed their fingerprints into the clay in which the contract was written. (5) _____ have also been found on clay seals from ancient China.

SubQuestion No : 24

Q.24 Select the most appropriate option to fill in the blank No. 4.

- Ans
- 1. going
 - 2. dating
 - 3. portraying
 - 4. stating

Question Type : **MCQ**

Question ID : **264330135805**

Option 1 ID : **264330532091**

Option 2 ID : **264330532092**

Option 3 ID : **264330532094**

Option 4 ID : **264330532093**

Status : **Answered**

Chosen Option : **1**

Comprehension:

In the following passage some words have been deleted. Fill in the blanks with the help of the alternatives given. Select the most appropriate option for each number.

If you enjoy (1) _____ crime shows on TV, you know that fingerprints play a large role in (2) _____ people. But, you might be (3) _____ to find out that using fingerprints for identification is not a new science. In fact, it is very old (4) _____ back at least as far as 1885-1913 B.C.E. In Babylon, when people agreed to a business contract, they pressed their fingerprints into the clay in which the contract was written. (5) _____ have also been found on clay seals from ancient China.

SubQuestion No : 25**Q.25** Select the most appropriate option to fill in the blank No. 5.

- Ans**
- 1. Thumbprints
 - 2. Sculptures
 - 3. Footprints
 - 4. Paintings

Question Type : MCQ**Question ID : 264330135806****Option 1 ID : 264330532095****Option 2 ID : 264330532097****Option 3 ID : 264330532096****Option 4 ID : 264330532098****Status : Answered****Chosen Option : 1**

Multi Tasking Non Technical Staff and Havaladar CBIC and CBN Examination 2022

Roll Number	KD Job Updates
Candidate Name	KD Job Updates
Venue Name	iON Digital Zone iDZ Dholi Magri
Exam Date	11/05/2023
Exam Time	9:00 AM - 10:30 AM
Subject	MTS Non Tech Havaladar CBIC and CBN Examination 2022

Section : Numerical and Mathematical Ability

Q.1 यदि कीमत में 25 प्रतिशत की कमी की जाती है, तो खपत में कितने प्रतिशत की वृद्धि की जानी चाहिए, ताकि व्यय अपरिवर्तित रहे?

- Ans
- 1. 40 प्रतिशत
 - 2. 20 प्रतिशत
 - 3. 33.33 प्रतिशत
 - 4. 37.5 प्रतिशत

Question Type : MCQ
Question ID : 264330139061
Option 1 ID : 264330544851
Option 2 ID : 264330544852
Option 3 ID : 264330544854
Option 4 ID : 264330544853
Status : Answered
Chosen Option : 3

Q.2 यदि $2P = 3Q$ और $5Q = 4R$ है, तो $P : Q : R$ का मान क्या है?

- Ans
- 1. 6 : 4 : 5
 - 2. 8 : 5 : 4
 - 3. 2 : 3 : 5
 - 4. 7 : 5 : 6

Question Type : MCQ
Question ID : 264330139004
Option 1 ID : 264330544625
Option 2 ID : 264330544623
Option 3 ID : 264330544626
Option 4 ID : 264330544624
Status : Answered
Chosen Option : 1

Q.3 एक निश्चित धनराशि पर 5 वर्ष के लिए 6% वार्षिक और 4 वर्ष के लिए 5% वार्षिक दर पर साधारण व्याज का अंतर Rs. 422 है। धनराशि ज्ञात कीजिए।

- Ans
- 1. Rs.1990
 - 2. Rs.6500
 - 3. Rs.4220
 - 4. Rs.2570

Question Type : MCQ
Question ID : 264330135380
Option 1 ID : 264330530428
Option 2 ID : 264330530430
Option 3 ID : 264330530429
Option 4 ID : 264330530427
Status : Answered
Chosen Option : 3

Q.4 एक आदमी अपनी बाइक को Rs. 132000 में बेचकर 10% का लाभ अर्जित करता है। यदि उसने इसे Rs. 126000 में बेचा होता, तो उसका लाभ या हानि प्रतिशत क्या होता?

- Ans
- 1. 10% लाभ
 - 2. 5% लाभ
 - 3. 5% हानि
 - 4. 10% हानि

Question Type : MCQ
Question ID : 264330141033
Option 1 ID : 264330552480
Option 2 ID : 264330552482
Option 3 ID : 264330552481
Option 4 ID : 264330552479
Status : Answered
Chosen Option : 2

Q.5 एक समूह के 25 सदस्यों का औसत भार 39 kg है। एक दूसरे समूह के 27 सदस्यों का औसत भार 21 kg है। दोनों समूहों के सदस्यों का कुल भार कितना होगा?

- Ans
- 1. 1426 kg
 - 2. 1542 kg
 - 3. 1714 kg
 - 4. 1507 kg

Question Type : MCQ
Question ID : 264330139060
Option 1 ID : 264330544850
Option 2 ID : 264330544849
Option 3 ID : 264330544848
Option 4 ID : 264330544847
Status : Answered
Chosen Option : 2

Q.6 A और B मिलकर किसी कार्य को 6 दिनों में पूरा करते हैं। यदि A अकेले उस कार्य को 10 दिनों में पूरा कर सकता है, तो B अकेले उस कार्य को कितने दिनों में पूरा कर सकता है?

- Ans
- 1. 14 दिन
 - 2. 15 दिन
 - 3. 12 दिन
 - 4. 10 दिन

Question Type : MCQ
Question ID : 264330133830
Option 1 ID : 264330524346
Option 2 ID : 264330524344
Option 3 ID : 264330524345
Option 4 ID : 264330524343
Status : Answered
Chosen Option : 2

Q.7 $42 \div [18 - \{6 + (3 \text{ of } 4 - 4 - 2 \text{ of } 5)\}]$ का मान क्या है?

- Ans
- 1. 5
 - 2. 6
 - 3. 2
 - 4. 3

Question Type : MCQ
Question ID : 264330138090
Option 1 ID : 264330540970
Option 2 ID : 264330540968
Option 3 ID : 264330540969
Option 4 ID : 264330540967
Status : Answered
Chosen Option : 4

Q.8 तीन धनात्मक संख्याओं में, पहली और दूसरी का अनुपात 3 : 4 है और दूसरी और तीसरी का अनुपात 3 : 5 है। पहली और तीसरी संख्या का गुणनफल 4500 है। इन तीन संख्याओं का योग क्या है?

- Ans
- 1. 235
 - 2. 282
 - 3. 205
 - 4. 198

Question Type : MCQ
Question ID : 264330139005
Option 1 ID : 264330544628
Option 2 ID : 264330544630
Option 3 ID : 264330544627
Option 4 ID : 264330544629
Status : Answered
Chosen Option : 3

Q.9 राम 12 km/hr की चाल से चलता है और अपने विद्यालय 12 मिनट देरी से पहुँचता है। यदि वह 16 km/hr की चाल से चलता है, तो वह निर्धारित समय से 8 मिनट पहले पहुँच जाता है। उसके घर से उसके विद्यालय की दूरी कितनी है?

- Ans**
- 1. 30 km
 - 2. 24 km
 - 3. 16 km
 - 4. 20 km

Question Type : **MCQ**

Question ID : **264330138998**

Option 1 ID : **264330544602**

Option 2 ID : **264330544601**

Option 3 ID : **264330544600**

Option 4 ID : **264330544599**

Status : **Answered**

Chosen Option : **3**

Q.10 उस वर्ग का क्षेत्रफल कितना है जिसका विकर्ण $5\sqrt{2}$ cm है?

- Ans**
- 1. 64 cm²
 - 2. 36 cm²
 - 3. 25 cm²
 - 4. 100 cm²

Question Type : **MCQ**

Question ID : **264330138054**

Option 1 ID : **264330540826**

Option 2 ID : **264330540825**

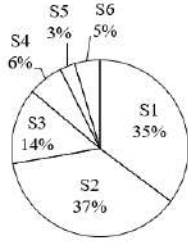
Option 3 ID : **264330540823**

Option 4 ID : **264330540824**

Status : **Answered**

Chosen Option : **3**

Q.11 नीचे दिए गए वृत्त आलेख में छः विद्यालयों में पढ़ने वाले छात्रों की संख्या को दर्शाया गया है। इन सभी छः विद्यालयों में पढ़ने वाले छात्रों की कुल संख्या 8000 है। इनमें से किसी एक विशिष्ट विद्यालय में पढ़ने वाले छात्रों की संख्या को इन सभी छः विद्यालयों में पढ़ने वाले छात्रों की कुल संख्या के प्रतिशत के रूप में दर्शाया गया है।



विद्यालय S2 और S4 में पढ़ने वाले छात्रों की कुल संख्या, विद्यालय S3 और S6 में पढ़ने वाले छात्रों की कुल संख्या का कितना प्रतिशत है?

- Ans
- 1. 171.22 प्रतिशत
 - 2. 226.31 प्रतिशत
 - 3. 190.46 प्रतिशत
 - 4. 265.22 प्रतिशत

Question Type : MCQ

Question ID : 264330139015

Option 1 ID : 264330544669

Option 2 ID : 264330544670

Option 3 ID : 264330544668

Option 4 ID : 264330544667

Status : Answered

Chosen Option : 2

Q.12 निम्नलिखित तालिका में वर्ष 2019 से 2022 तक भारत के 5 राज्यों में बेरोज़गार व्यक्तियों की संख्या को दर्शाया गया है।

वर्ष 2021 में कर्नाटक, महाराष्ट्र और पंजाब में बेरोज़गार व्यक्तियों की औसत संख्या कितनी है?

State/Year	Number of unemployed people (in thousand)			
	2019	2020	2021	2022
Bihar	25	40	50	42
UP	84	70	60	58
Karnataka	12	10	9	10
Maharashtra	40	48	30	32
Punjab	20	25	18	15

State/Year = राज्य/वर्ष

Number of unemployed people (in thousand) = बेरोज़गार व्यक्तियों की संख्या (हजार में)

Bihar = बिहार, UP = यूपी, Karnataka = कर्नाटक, Maharashtra = महाराष्ट्र, Punjab = पंजाब

- Ans
- 1. 9 हजार
 - 2. 19 हजार
 - 3. 30 हजार
 - 4. 18 हजार

Question Type : MCQ

Question ID : 264330138105

Option 1 ID : 264330541029

Option 2 ID : 264330541027

Option 3 ID : 264330541030

Option 4 ID : 264330541028

Status : Answered

Chosen Option : 2

Q.13 सीमा अकेले किसी कार्य को 8 दिनों में कर सकती है और उसकी बहन रीमा अकेले उसी कार्य को 24 दिनों में कर सकती है। यदि वे साथ मिलकर कार्य करें, तो वे कितने दिनों में कार्य पूरा करेंगी?

- Ans
- 1. 10 दिन
 - 2. 4 दिन
 - 3. 6 दिन
 - 4. 8 दिन

Question Type : MCQ
Question ID : 264330138050
Option 1 ID : 264330540810
Option 2 ID : 264330540807
Option 3 ID : 264330540809
Option 4 ID : 264330540808
Status : Answered
Chosen Option : 3

Q.14 एक वस्तु का अंकित मूल्य उसके क्रय मूल्य से 20 प्रतिशत अधिक है। यदि अंकित मूल्य पर 10 प्रतिशत की छूट दी जाती है, तो लाभ प्रतिशत क्या होगा?

- Ans
- 1. 12 प्रतिशत
 - 2. 8 प्रतिशत
 - 3. 15 प्रतिशत
 - 4. 10 प्रतिशत

Question Type : MCQ
Question ID : 264330139008
Option 1 ID : 264330544641
Option 2 ID : 264330544639
Option 3 ID : 264330544642
Option 4 ID : 264330544640
Status : Answered
Chosen Option : 2

Q.15 एक राशि साधारण ब्याज पर 14 प्रतिशत वार्षिक दर पर 7 वर्ष में Rs.27720 हो जाती है। वह राशि क्या है?

- Ans
- 1. Rs. 14000
 - 2. Rs. 15000
 - 3. Rs. 13000
 - 4. Rs. 14700

Question Type : MCQ
Question ID : 264330139066
Option 1 ID : 264330544872
Option 2 ID : 264330544874
Option 3 ID : 264330544871
Option 4 ID : 264330544873
Status : Answered
Chosen Option : 1

Q.16 12, 25 और 45 से विभाज्य, चार अंकों की सबसे बड़ी संख्या कौन-सी है?

- Ans 1. 9800
 2. 9900
 3. 9999
 4. 9890

Question Type : MCQ

Question ID : 264330141006

Option 1 ID : 264330552372

Option 2 ID : 264330552374

Option 3 ID : 264330552371

Option 4 ID : 264330552373

Status : Answered

Chosen Option : 2

Q.17 तीन नापने वाले फीतों की लंबाई 56 cm, 64 cm और 80 cm है। वह न्यूनतम लंबाई ज्ञात कीजिए जिसे तीनों फीतों में से किसी भी एक का प्रयोग करके नापा जा सके। (एक समय में केवल एक प्रकार के फीते का ही उपयोग किया जाना चाहिए और नापने के लिए केवल एक पूरे फीते का उपयोग किया जाना चाहिए।)

- Ans 1. 1982 cm
 2. 2240 cm
 3. 1876 cm
 4. 1706 cm

Question Type : MCQ

Question ID : 264330139011

Option 1 ID : 264330544654

Option 2 ID : 264330544652

Option 3 ID : 264330544651

Option 4 ID : 264330544653

Status : Answered

Chosen Option : 2

Q.18 प्रथम 57 प्राकृत संख्याओं का औसत क्या है?

- Ans 1. 29
 2. 42
 3. 35
 4. 40.5

Question Type : MCQ

Question ID : 264330138999

Option 1 ID : 264330544605

Option 2 ID : 264330544604

Option 3 ID : 264330544606

Option 4 ID : 264330544603

Status : Answered

Chosen Option : 1

Q.19 एक वस्तु को Rs. 8442 में बेचते समय, एक व्यक्ति को 30 प्रतिशत की हानि हुई। उसे 20 प्रतिशत का लाभ अर्जित करने के लिए वस्तु को किस मूल्य पर बेचना चाहिए था?

- Ans**
- 1. Rs. 15686
 - 2. Rs. 12806
 - 3. Rs. 13885
 - 4. Rs. 14472

Question Type : **MCQ**

Question ID : **264330139003**

Option 1 ID : **264330544620**

Option 2 ID : **264330544621**

Option 3 ID : **264330544622**

Option 4 ID : **264330544619**

Status : **Answered**

Chosen Option : **4**

Q.20 एक गोलीय कोश की बाहरी त्रिज्या 13 cm है और कोश की मोटाई 3 cm है। कोश के लिए प्रयुक्त धातु का आयतन कितना है? ($\pi = \frac{22}{7}$)

- Ans**
- 1. 2197 cm³
 - 2. 3024 cm³
 - 3. 1197 cm³
 - 4. 5016 cm³

Question Type : **MCQ**

Question ID : **264330133835**

Option 1 ID : **264330524363**

Option 2 ID : **264330524365**

Option 3 ID : **264330524366**

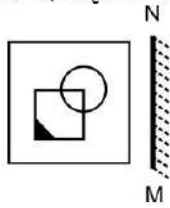
Option 4 ID : **264330524364**

Status : **Answered**

Chosen Option : **4**

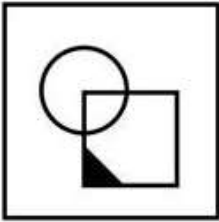
Section : Reasoning Ability and Problem Solving

Q.1 दी गई आकृति के उस सही दर्पण प्रतिबिंब को चुनिए जो दर्पण MN को आकृति के दाईं ओर रखने पर बनेगा।

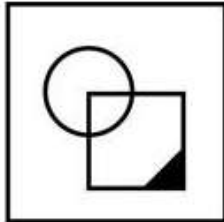


Ans

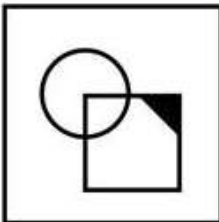
✗ 1.



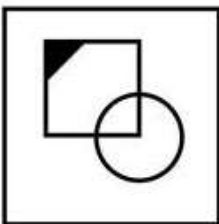
✓ 2.



✗ 3.



✗ 4.



Question Type : MCQ

Question ID : 264330137872

Option 1 ID : 264330540096

Option 2 ID : 264330540097

Option 3 ID : 264330540095

Option 4 ID : 264330540098

Status : Answered

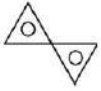
Chosen Option : 2

Q.2 रश्मि, मोनिका से कद में छोटी है जो प्रेरणा से कद में छोटी है। सना, रश्मि से कद में छोटी है। हर्षिता, प्रेरणा से लंबी है। उमा, निकिता से कद में छोटी है और हर्षिता से लंबी है। इनमें से किसका कद सबसे छोटा है?

- Ans**
- ✓ 1. सना
 - ✗ 2. रश्मि
 - ✗ 3. उमा
 - ✗ 4. प्रेरणा

Question Type : **MCQ**
 Question ID : **264330138817**
 Option 1 ID : **264330543877**
 Option 2 ID : **264330543878**
 Option 3 ID : **264330543876**
 Option 4 ID : **264330543875**
 Status : **Answered**
 Chosen Option : **1**

Q.3 उस विकल्प आकृति को चुनिए जिसमें नीचे दी गई आकृति उसके भाग के रूप में निहित है (घूर्णन की अनुमति नहीं है)।



Ans

- ✗ 1.
- ✗ 2.
- ✗ 3.
- ✓ 4.

Question Type : **MCQ**
 Question ID : **264330137871**
 Option 1 ID : **264330540093**
 Option 2 ID : **264330540092**
 Option 3 ID : **264330540091**
 Option 4 ID : **264330540094**
 Status : **Answered**
 Chosen Option : **4**

Q.4 एक निश्चित कूट भाषा में, 'PROVED' को 'VEDPRO' लिखा जाता है। उस कूट भाषा में 'ROBUST' को कैसे लिखा जाएगा?

- Ans
- 1. VSTRBO
 - 2. VSTROB
 - 3. USTROC
 - 4. USTROB

Question Type : MCQ
Question ID : 264330138854
Option 1 ID : 264330544023
Option 2 ID : 264330544025
Option 3 ID : 264330544026
Option 4 ID : 264330544024
Status : Answered
Chosen Option : 4

Q.5 छः छात्र सुभम, स्नेहा, सुरभि, मुस्कान, हर्ष और विशाल एक असेंबली लाइन में उत्तर की ओर मुख करके (एक के पीछे एक) खड़े हैं। लाइन में हर्ष के पीछे केवल एक छात्र खड़ा है। स्नेहा, विशाल और मुस्कान के ठीक बीच में खड़ी है। सुरभि, मुस्कान और हर्ष के बीच में खड़ी है। सुरभि के ठीक पीछे कौन खड़ा है?

- Ans
- 1. विशाल
 - 2. स्नेहा
 - 3. हर्ष
 - 4. सुभम

Question Type : MCQ
Question ID : 264330138815
Option 1 ID : 264330543868
Option 2 ID : 264330543869
Option 3 ID : 264330543870
Option 4 ID : 264330543867
Status : Answered
Chosen Option : 3

Q.6 एक निश्चित कूट भाषा में, 'PARK' को 'FMVK' लिखा जाता है। उस कूट भाषा में 'RICE' को कैसे लिखा जाएगा?

- Ans
- 1. ZXDM
 - 2. ZXDN
 - 3. ZXDL
 - 4. ZXEM

Question Type : MCQ
Question ID : 264330138525
Option 1 ID : 264330542710
Option 2 ID : 264330542708
Option 3 ID : 264330542707
Option 4 ID : 264330542709
Status : Answered
Chosen Option : 1

Q.7 उस विकल्प को चुनिए जो पाँचवी संख्या से ठीक उसी प्रकार संबंधित है जिस प्रकार दूसरी संख्या पहली संख्या से संबंधित है और चौथी संख्या तीसरी संख्या से संबंधित है।

10 : 512 :: 12 : 1000 :: 8 : ?

- Ans
- 1. 512
 - 2. 216
 - 3. 256
 - 4. 315

Question Type : MCQ
Question ID : 264330138843
Option 1 ID : 264330543981
Option 2 ID : 264330543982
Option 3 ID : 264330543979
Option 4 ID : 264330543980
Status : Answered
Chosen Option : 2

Q.8 दिए गए समीकरण को सही करने के लिए किन दो संख्याओं को आपस में बदला जाना चाहिए?

$$4 \times 2 - 3 + 5 = 7$$

- Ans
- 1. 7 और 5
 - 2. 4 और 5
 - 3. 3 और 4
 - 4. 2 और 7

Question Type : MCQ
Question ID : 264330138824
Option 1 ID : 264330543904
Option 2 ID : 264330543905
Option 3 ID : 264330543903
Option 4 ID : 264330543906
Status : Answered
Chosen Option : 3

Q.9 दी गई श्रृंखला में निम्नलिखित में से कौन-सी संख्या प्रश्न चिन्ह (?) के स्थान पर आएगी?
27, 30, 35, 38, 43, 46, 51, ?

- Ans
- 1. 56
 - 2. 48
 - 3. 30
 - 4. 54

Question Type : MCQ
Question ID : 264330138821
Option 1 ID : 264330543894
Option 2 ID : 264330543891
Option 3 ID : 264330543892
Option 4 ID : 264330543893
Status : Answered
Chosen Option : 4

Q.10 दो कथन दिए गए हैं और दो निष्कर्ष I और II दिए गए हैं। कथनों को सत्य मानते हुए, चाहे वे सामान्यतः ज्ञात तथ्यों से अलग प्रतीत हों, निश्चय कीजिए कि कौन-सा निष्कर्ष ताकिक रूप से कथनों के अनुसार है।
कथन:
सभी कुर्सियाँ, डेस्क हैं।
सभी डेस्क, मेज़ हैं।
निष्कर्ष:
I. कुछ मेज़, कुर्सियाँ हैं।
II. सभी मेज़, डेस्क हैं।

- Ans**
- 1. सिर्फ निष्कर्ष II कथनों के अनुसार है
 - 2. सिर्फ निष्कर्ष I कथनों के अनुसार है
 - 3. निष्कर्ष I और II में से कोई भी कथनों के अनुसार नहीं है
 - 4. दोनों निष्कर्ष I और II कथनों के अनुसार हैं

Question Type : **MCQ**
Question ID : **264330138818**
Option 1 ID : **264330543880**
Option 2 ID : **264330543879**
Option 3 ID : **264330543882**
Option 4 ID : **264330543881**
Status : **Answered**
Chosen Option : **2**

Q.11 दी गई श्रृंखला में निम्नलिखित में से कौन-सा अक्षर प्रश्न चिन्ह (?) के स्थान पर आएगा?
Y, T, O, J, E, ?

- Ans**
- 1. B
 - 2. C
 - 3. D
 - 4. Z

Question Type : **MCQ**
Question ID : **264330138808**
Option 1 ID : **264330543840**
Option 2 ID : **264330543839**
Option 3 ID : **264330543841**
Option 4 ID : **264330543842**
Status : **Answered**
Chosen Option : **4**

Q.12 उस विकल्प को चुनिए जो तीसरे शब्द से ठीक उसी तरह संबंधित है जिस तरह दूसरा शब्द पहले शब्द से संबंधित है।
सैनिक : बंदूक :: शल्य चिकित्सक : ?

Ans

- ✓ 1. छुरी (Scalpel)
- ✗ 2. तलवार (Sword)
- ✗ 3. कुल्हाड़ी (Axe)
- ✗ 4. कलम (Pen)

Question Type : MCQ

Question ID : 264330138810

Option 1 ID : 264330543849

Option 2 ID : 264330543848

Option 3 ID : 264330543850

Option 4 ID : 264330543847

Status : Answered

Chosen Option : 1

Q.13 निम्नलिखित प्रश्न में, दी गई श्रृंखला में लुप्त संख्या चुनिए ।

500, 477, 454, 431, 408, ?

Ans

- ✗ 1. 391
- ✗ 2. 390
- ✓ 3. 385
- ✗ 4. 384

Question Type : MCQ

Question ID : 264330138841

Option 1 ID : 264330543974

Option 2 ID : 264330543973

Option 3 ID : 264330543971

Option 4 ID : 264330543972

Status : Answered

Chosen Option : 3

Q.14 P, Q, R, और S एक बेंच पर दक्षिण की ओर मुख करके बैठे हैं और A, B, C और D एक समानांतर बेंच पर उत्तर की ओर मुख करके बैठे हैं। S और B एक दूसरे के सम्मुख बैठे हैं। A, D और C के ठीक बीच में बैठा है। P, C के सम्मुख बैठा है। Q, S के ठीक बाईं ओर बैठा है। R के स्थान के संदर्भ में निम्नलिखित में से कौन-सा कथन सही है?

- Ans
- 1. Q के ठीक दाईं ओर R बैठा है
 - 2. A के सम्मुख R बैठा है
 - 3. D के सम्मुख R बैठा है
 - 4. P के ठीक बाईं ओर R बैठा है

Question Type : MCQ
Question ID : 264330138816
Option 1 ID : 264330543873
Option 2 ID : 264330543874
Option 3 ID : 264330543871
Option 4 ID : 264330543872
Status : Answered
Chosen Option : 2

Q.15 एक निश्चित कूट भाषा में, 'KOVID' को 'DIVOK' लिखा जाता है। उस कूट भाषा में 'DAVID' को कैसे लिखा जाएगा?

- Ans
- 1. DIVBD
 - 2. DIVAD
 - 3. DIVDA
 - 4. DIWAD

Question Type : MCQ
Question ID : 264330137112
Option 1 ID : 264330537094
Option 2 ID : 264330537092
Option 3 ID : 264330537093
Option 4 ID : 264330537091
Status : Answered
Chosen Option : 2

Q.16 दिए गए दो चिन्हों को आपस में बदलने पर, निम्नलिखित में से कौन-सा समीकरण सही नहीं होगा?

× और -

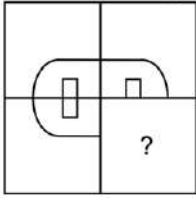
I. $4 \div 2 + 1 \times 6 - 3 = 13$

II. $5 + 7 - 8 \times 2 \div 1 = 58$

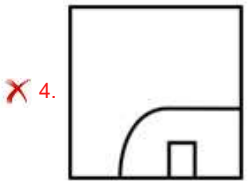
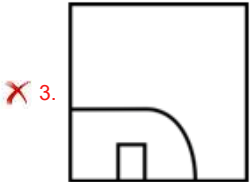
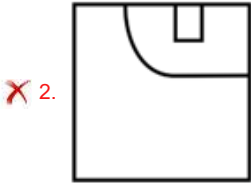
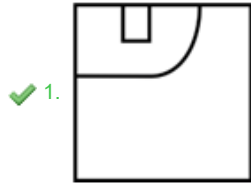
- Ans
- 1. I और II दोनों
 - 2. केवल I
 - 3. न तो I और न ही II
 - 4. केवल II

Question Type : MCQ
Question ID : 264330135579
Option 1 ID : 264330531217
Option 2 ID : 264330531215
Option 3 ID : 264330531218
Option 4 ID : 264330531216
Status : Answered
Chosen Option : 1

Q.17 उस विकल्प आकृति को चुनिए जो नीचे दी गई आकृति में पैटर्न को पूरा करने के लिए प्रश्न चिन्ह (?) के स्थान पर आएगी। (घूर्णन की अनुमति नहीं है)।



Ans



Question Type : MCQ

Question ID : 264330138828

Option 1 ID : 264330543920

Option 2 ID : 264330543921

Option 3 ID : 264330543919

Option 4 ID : 264330543922

Status : Answered

Chosen Option : 1

Q.18 तीन कथन दिए गए हैं और दो निष्कर्ष I और II दिए गए हैं। कथनों को सत्य मानते हुए, चाहे वे सामान्यतः ज्ञात तथ्यों से अलग प्रतीत होते हों, निश्चय कीजिए कि कौन-सा निष्कर्ष तार्किक रूप से कथनों के अनुसार है।
कथन:

कुछ खरगोश, सफेद हैं।

कुछ खरगोश, भूरे हैं।

सभी सफेद, पीले हैं।

निष्कर्ष:

I. कुछ भूरे, पीले हैं।

II. कुछ खरगोश, पीले हैं।

Ans

1. सिर्फ निष्कर्ष I कथनों के अनुसार है
2. दोनों निष्कर्ष I और II कथनों के अनुसार हैं
3. निष्कर्ष I और II में से कोई भी कथनों के अनुसार नहीं है
4. सिर्फ निष्कर्ष II कथनों के अनुसार है

Question Type : MCQ

Question ID : 264330138819

Option 1 ID : 264330543883

Option 2 ID : 264330543885

Option 3 ID : 264330543886

Option 4 ID : 264330543884

Status : Answered

Chosen Option : 4

Q.19 दिए गए पैटर्न का ध्यानपूर्वक अध्ययन कीजिए और उस संख्या को चुनिए जो इसमें प्रश्न चिन्ह (?) के स्थान पर आ सकती है?

प्रथम पंक्ति- 18, 36, 6

द्वितीय पंक्ति- 24, 48, 8

तृतीय पंक्ति- 33, 66, ?

Ans

1. 14
2. 13
3. 11
4. 12

Question Type : MCQ

Question ID : 264330138823

Option 1 ID : 264330543901

Option 2 ID : 264330543902

Option 3 ID : 264330543899

Option 4 ID : 264330543900

Status : Answered

Chosen Option : 3

Q.20 उस विकल्प को चुनिए जो तीसरे अक्षर-समूह से ठीक उसी तरह संबंधित है जिस तरह दूसरा अक्षर-समूह पहले अक्षर-समूह से संबंधित है।
SOC : TND :: UDN : ?

- Ans
- 1. VCP
 - 2. OCV
 - 3. VCO
 - 4. UCO

Question Type : MCQ
Question ID : 264330138811
Option 1 ID : 264330543854
Option 2 ID : 264330543852
Option 3 ID : 264330543851
Option 4 ID : 264330543853
Status : Answered
Chosen Option : 3

Section : General Awareness

Q.1 "थॉमस कप (Thomas Cup)" निम्नलिखित में से किस खेल से संबंधित है?

- Ans
- 1. फुटबॉल
 - 2. टेनिस
 - 3. बैडमिंटन
 - 4. क्रिकेट

Question Type : MCQ
Question ID : 264330138900
Option 1 ID : 264330544207
Option 2 ID : 264330544209
Option 3 ID : 264330544208
Option 4 ID : 264330544210
Status : Answered
Chosen Option : 3

Q.2 निश्चित दिशा में महासागरीय सतह पर नियमित रूप से बहने वाली जल की धाराएँ _____ कहलाती हैं।

- Ans
- 1. ज्वार-भाटा
 - 2. महासागरीय धाराएँ
 - 3. चक्रवात
 - 4. लहरें

Question Type : MCQ
Question ID : 264330138911
Option 1 ID : 264330544253
Option 2 ID : 264330544254
Option 3 ID : 264330544252
Option 4 ID : 264330544251
Status : Answered
Chosen Option : 4

Q.3 जून 2022 में, Google इडल ने सत्येंद्र नाथ बोस को सम्मानित किया, वह एक _____ थे।

Ans 1. भारतीय भौतिक विज्ञानी

2. भारतीय शास्त्रीय नर्तक

3. भारतीय गायक

4. सर्वोच्च न्यायालय के न्यायाधीश

Question Type : MCQ

Question ID : 264330138879

Option 1 ID : 264330544125

Option 2 ID : 264330544124

Option 3 ID : 264330544126

Option 4 ID : 264330544123

Status : Answered

Chosen Option : 1

Q.4 निम्नलिखित में से किस गुप्त शासक ने नालंदा विश्वविद्यालय की शुरुआत की थी?

Ans 1. कुमारगुप्त

2. विष्णुगुप्त

3. चंद्रगुप्त द्वितीय

4. स्कंदगुप्त

Question Type : MCQ

Question ID : 264330137982

Option 1 ID : 264330540537

Option 2 ID : 264330540535

Option 3 ID : 264330540538

Option 4 ID : 264330540536

Status : Answered

Chosen Option : 1

Q.5 जनन की वह प्रक्रिया जिसमें केवल एक ही जीव भाग लेता है, _____ कहलाता है।

Ans 1. अलैंगिक जनन

2. इन विट्रो निषेचन

3. बाह्य निषेचन

4. लैंगिक जनन

Question Type : MCQ

Question ID : 264330138910

Option 1 ID : 264330544248

Option 2 ID : 264330544249

Option 3 ID : 264330544250

Option 4 ID : 264330544247

Status : Answered

Chosen Option : 1

Q.6 भारतीय संविधान का निम्नलिखित में से कौन -सा अनुच्छेद "कार्यपालिका से न्यायपालिका के पृथक्करण" से संबंधित है?

- Ans
- 1. अनुच्छेद 44
 - 2. अनुच्छेद 46
 - 3. अनुच्छेद 40
 - 4. अनुच्छेद 50

Question Type : MCQ
Question ID : 264330138883
Option 1 ID : 264330544140
Option 2 ID : 264330544141
Option 3 ID : 264330544139
Option 4 ID : 264330544142
Status : Answered
Chosen Option : 4

Q.7 वह न्यूनतम ताप जिस पर कोई पदार्थ जलने लगता है, उस पदार्थ का _____ कहलाता है।

- Ans
- 1. गलनांक
 - 2. ज्वलन-ताप
 - 3. दहन ताप
 - 4. विस्फोटन बिंदु

Question Type : MCQ
Question ID : 264330138912
Option 1 ID : 264330544255
Option 2 ID : 264330544256
Option 3 ID : 264330544257
Option 4 ID : 264330544258
Status : Answered
Chosen Option : 2

Q.8 सितंबर 2020 में किस विधेयक के कारण लोगों ने दिल्ली, हरियाणा और पंजाब में व्यापक विरोध प्रदर्शन किया?

- Ans
- 1. ट्रांसजेंडर विधेयक
 - 2. केंद्रीय विश्वविद्यालय विधेयक
 - 3. ऊर्जा संरक्षण विधेयक
 - 4. कृषि विधेयक

Question Type : MCQ
Question ID : 264330135435
Option 1 ID : 264330530650
Option 2 ID : 264330530647
Option 3 ID : 264330530648
Option 4 ID : 264330530649
Status : Answered
Chosen Option : 4

Q.9 जापान जैसे देशों में, _____ जन्म दर, जनसंख्या पिरामिड को आधार पर _____ बनाती है।

- Ans
- 1. निम्न, विस्तृत
 - 2. निम्न, सँकरा
 - 3. उच्च, सँकरा
 - 4. उच्च, विस्तृत

Question Type : MCQ

Question ID : 264330138916

Option 1 ID : 264330544274

Option 2 ID : 264330544273

Option 3 ID : 264330544271

Option 4 ID : 264330544272

Status : Answered

Chosen Option : 2

Q.10 निम्नलिखित में से किस फसल को "सुनहरा रेशा(Golden fibre)" के रूप में भी जाना जाता है?

- Ans
- 1. गन्ना
 - 2. पटसन
 - 3. चावल
 - 4. गेहूँ

Question Type : MCQ

Question ID : 264330138313

Option 1 ID : 264330541862

Option 2 ID : 264330541860

Option 3 ID : 264330541859

Option 4 ID : 264330541861

Status : Answered

Chosen Option : 2

Q.11 अहमदिया, इस्लाम का एक संप्रदाय है जिसकी शुरुआत भारत में हुई थी। इसकी स्थापना 1889 में _____ द्वारा की गई थी।

- Ans
- 1. मीर निसार अली (Mir Nisar Ali)
 - 2. शाह वलीउल्लाह (Shah Waliullah)
 - 3. मिर्जा गुलाम अहमद (Mirza Ghulam Ahmad)
 - 4. हाजी शरीयतुल्लाह (Haji Shariatullah)

Question Type : MCQ

Question ID : 264330137985

Option 1 ID : 264330540549

Option 2 ID : 264330540550

Option 3 ID : 264330540547

Option 4 ID : 264330540548

Status : Answered

Chosen Option : 3

Q.12 झिझिया किस राज्य का प्रसिद्ध लोकनृत्य है?

- Ans
- 1. राजस्थान
 - 2. उत्तरप्रदेश
 - 3. बिहार
 - 4. हरियाणा

Question Type : MCQ
Question ID : 264330138871
Option 1 ID : 264330544091
Option 2 ID : 264330544093
Option 3 ID : 264330544094
Option 4 ID : 264330544092
Status : Not Answered
Chosen Option : --

Q.13 मुग़ल अपने पिता की ओर से _____ के वंशज थे।

- Ans
- 1. मुहम्मद गोरी
 - 2. चंगेज़ खां
 - 3. महमूद गजनवी
 - 4. तैमूर

Question Type : MCQ
Question ID : 264330138918
Option 1 ID : 264330544282
Option 2 ID : 264330544279
Option 3 ID : 264330544280
Option 4 ID : 264330544281
Status : Answered
Chosen Option : 2

Q.14 लंदन ओलम्पिक 2012 में भारत ने कितने रजत पदक जीते?

- Ans
- 1. दो
 - 2. तीन
 - 3. एक
 - 4. चार

Question Type : MCQ
Question ID : 264330138874
Option 1 ID : 264330544104
Option 2 ID : 264330544105
Option 3 ID : 264330544103
Option 4 ID : 264330544106
Status : Answered
Chosen Option : 3

Q.15 कलामंडलम कल्याणिकुट्टी अम्मा (Kalamandalam Kalyanikutty Amma) को वर्ष 1997-1998 में कालिदास सम्मान से सम्मानित किया गया था। वह किस भारतीय शास्त्रीय नृत्य शैली के लिए प्रसिद्ध थीं?

- Ans
- 1. कुचिपुडी
 - 2. मोहिनीअट्टम
 - 3. ओडिसी
 - 4. कथक

Question Type : MCQ
Question ID : 264330138303
Option 1 ID : 264330541821
Option 2 ID : 264330541822
Option 3 ID : 264330541820
Option 4 ID : 264330541819
Status : Answered
Chosen Option : 1

Q.16 GDP calculated at some constant set of prices is called _____.

- Ans
- 1. current GDP
 - 2. nominal GDP
 - 3. domestic GDP
 - 4. real GDP

Question Type : MCQ
Question ID : 264330138306
Option 1 ID : 264330541833
Option 2 ID : 264330541832
Option 3 ID : 264330541831
Option 4 ID : 264330541834
Status : Answered
Chosen Option : 1

Q.17 दिल्ली में जामा मस्जिद _____ द्वारा बनवाई गई थी।

- Ans
- 1. सिकंदर लोदी
 - 2. शाहजहाँ
 - 3. अकबर
 - 4. अलाउद्दीन खिलजी

Question Type : MCQ
Question ID : 264330135438
Option 1 ID : 264330530659
Option 2 ID : 264330530662
Option 3 ID : 264330530660
Option 4 ID : 264330530661
Status : Answered
Chosen Option : 2

Q.18 Which of the following is the ultimate source of energy for all living organisms?

- Ans
- ✓ 1. Sun
 - ✗ 2. Air
 - ✗ 3. Soil
 - ✗ 4. Water

Question Type : MCQ
Question ID : 264330138884
Option 1 ID : 264330544144
Option 2 ID : 264330544146
Option 3 ID : 264330544143
Option 4 ID : 264330544145
Status : Answered
Chosen Option : 4

Q.19 लता मंगेशकर ने एक _____ फिल्म के लिए अपना पहला पार्श्व गीत रिकॉर्ड किया।

- Ans
- ✓ 1. मराठी
 - ✗ 2. बंगाली
 - ✗ 3. तमिल
 - ✗ 4. पंजाबी

Question Type : MCQ
Question ID : 264330138877
Option 1 ID : 264330544118
Option 2 ID : 264330544115
Option 3 ID : 264330544116
Option 4 ID : 264330544117
Status : Answered
Chosen Option : 1

Q.20 सैय्यद (Sayyid) वंश का प्रथम शासक कौन था ?

- Ans
- ✗ 1. मुबारक खान
 - ✗ 2. अलाउद्दीन आलम शाह
 - ✓ 3. खिज़्र खाँ
 - ✗ 4. मुहम्मद शाह

Question Type : MCQ
Question ID : 264330134706
Option 1 ID : 264330527781
Option 2 ID : 264330527779
Option 3 ID : 264330527780
Option 4 ID : 264330527782
Status : Answered
Chosen Option : 3

Q.21 नवंबर 2022 में, भारतीय तटरक्षक के उन्नत और हल्के हेलीकॉप्टर (Indian Coast Guard Advanced Light Helicopter) Mk-III स्क्वाड्रन, 840 Sqn (CG) को _____ में नियुक्त किया गया।

- Ans
- ✓ 1. चेन्नई
 - ✗ 2. कानपुर
 - ✗ 3. पुरी
 - ✗ 4. मैसूर

Question Type : MCQ
Question ID : 264330138880
Option 1 ID : 264330544128
Option 2 ID : 264330544127
Option 3 ID : 264330544130
Option 4 ID : 264330544129
Status : Answered
Chosen Option : 1

Q.22 कंटीले वन तथा झाड़ियाँ भारत के किन भागों में पाए जाते हैं?

- Ans
- ✗ 1. उत्तरी-पूर्वी
 - ✗ 2. दक्षिणी
 - ✗ 3. पूर्वी
 - ✓ 4. उत्तरी-पश्चिमी

Question Type : MCQ
Question ID : 264330138889
Option 1 ID : 264330544166
Option 2 ID : 264330544165
Option 3 ID : 264330544164
Option 4 ID : 264330544163
Status : Answered
Chosen Option : 4

Q.23 ब्रिटिश भारत के अंतिम गवर्नर जनरल कौन थे?

- Ans
- ✗ 1. लॉर्ड हेस्टिंग्स
 - ✗ 2. लॉर्ड आँकलैंड
 - ✓ 3. लॉर्ड माउंटबेटन
 - ✗ 4. लॉर्ड वैलेस्ली

Question Type : MCQ
Question ID : 264330135449
Option 1 ID : 264330530704
Option 2 ID : 264330530706
Option 3 ID : 264330530705
Option 4 ID : 264330530703
Status : Answered
Chosen Option : 1

Q.24 मणिपुर का याओशंग (Yaoshang) उत्सव _____ दिनों तक मनाया जाता है।

- Ans
- 1. सात
 - 2. दो
 - 3. पाँच
 - 4. नौ

Question Type : MCQ
Question ID : 264330137972
Option 1 ID : 264330540496
Option 2 ID : 264330540498
Option 3 ID : 264330540495
Option 4 ID : 264330540497
Status : Not Answered
Chosen Option : --

Q.25 'द इनहेरिटेस ऑफ लॉस (The Inheritance of Loss)' पुस्तक _____ द्वारा लिखी गई है।

- Ans
- 1. वी.एस. नायपॉल
 - 2. सलमान रुश्दी
 - 3. किरण देसाई
 - 4. रस्किन बॉन्ड

Question Type : MCQ
Question ID : 264330138301
Option 1 ID : 264330541814
Option 2 ID : 264330541811
Option 3 ID : 264330541812
Option 4 ID : 264330541813
Status : Answered
Chosen Option : 2

Section : English Language and Comprehension

Q.1 Select the wrongly spelt word.

- Ans
- 1. peripheral
 - 2. pariah
 - 3. pernicious
 - 4. prefunctory

Question Type : MCQ
Question ID : 264330136532
Option 1 ID : 264330534869
Option 2 ID : 264330534867
Option 3 ID : 264330534870
Option 4 ID : 264330534868
Status : Answered
Chosen Option : 4

Q.2 Improve the underlined part of the sentence. Choose 'No improvement' as an answer if the sentence is grammatically correct.

The teacher had reading the instructions aloud to the students.

- Ans**
- 1. No improvement
 - 2. had read the
 - 3. had been read the
 - 4. reading the

Question Type : **MCQ**
Question ID : **264330136851**
Option 1 ID : **264330536098**
Option 2 ID : **264330536096**
Option 3 ID : **264330536097**
Option 4 ID : **264330536095**
Status : **Answered**
Chosen Option : **2**

Q.3 Improve the underlined part of the sentence. Choose 'No improvement' as an answer if the sentence is grammatically correct.

In the logo, the blue contrast wells with its complementary colour, yellow.

- Ans**
- 1. contrast we'll
 - 2. contrast well
 - 3. No improvement
 - 4. contrasts well

Question Type : **MCQ**
Question ID : **264330135311**
Option 1 ID : **264330530157**
Option 2 ID : **264330530156**
Option 3 ID : **264330530158**
Option 4 ID : **264330530155**
Status : **Answered**
Chosen Option : **4**

Q.4 Find the part of the given sentence that has an error in it. If there is no error, choose 'No error'.
The radio data shows neither evidence for ongoing jet activity.

- Ans**
- 1. ongoing jet activity.
 - 2. The radio data shows
 - 3. No error
 - 4. neither evidence for

Question Type : **MCQ**
Question ID : **264330136848**
Option 1 ID : **264330536085**
Option 2 ID : **264330536083**
Option 3 ID : **264330536086**
Option 4 ID : **264330536084**
Status : **Answered**
Chosen Option : **4**

Q.5 Fill in the blank with the most appropriate option.

The pudding fell _____ floor with a heart-stopping crash.

- Ans**
- 1. to the
 - 2. upon the
 - 3. up to the
 - 4. in to the

Question Type : **MCQ**
Question ID : **264330136620**
Option 1 ID : **264330535210**
Option 2 ID : **264330535207**
Option 3 ID : **264330535209**
Option 4 ID : **264330535208**
Status : **Answered**
Chosen Option : **2**

Q.6 In the following question, out of the given four alternatives, select the alternative which best expresses the meaning of the Idiom/Phrase.

Draw a blank

- Ans**
- 1. Give lame excuses
 - 2. Ragging of a fresher
 - 3. A very complex question
 - 4. To fail to get an answer or result

Question Type : **MCQ**
Question ID : **264330136867**
Option 1 ID : **264330536156**
Option 2 ID : **264330536155**
Option 3 ID : **264330536158**
Option 4 ID : **264330536157**
Status : **Answered**
Chosen Option : **4**

Q.7 Improve the underlined part of the sentence. Choose 'No improvement' as an answer if the sentence is grammatically correct.

The comedian's jokes are so bad that audiences usually groaning instead of laugh.

- Ans**
- 1. usually groan instead of
 - 2. usual groan instead off
 - 3. No improvement
 - 4. usual groaned despite of

Question Type : **MCQ**
Question ID : **264330136852**
Option 1 ID : **264330536099**
Option 2 ID : **264330536100**
Option 3 ID : **264330536102**
Option 4 ID : **264330536101**
Status : **Answered**
Chosen Option : **1**

Q.8 Choose the word that can substitute the given group of words.
Disease that spreads over a whole country or the whole world

- Ans**
- 1. Panacea
 - 2. Epidermis
 - 3. Rustic
 - 4. Pandemic

Question Type : **MCQ**
Question ID : **264330136861**
Option 1 ID : **264330536134**
Option 2 ID : **264330536132**
Option 3 ID : **264330536131**
Option 4 ID : **264330536133**
Status : **Answered**
Chosen Option : **4**

Q.9 Find the part of the given sentence that has an error in it. If there is no error, choose 'No error'.
If I was a clown, I would have made everyone smile.

- Ans**
- 1. If I was a clown,
 - 2. everyone smile.
 - 3. No error
 - 4. I would have made

Question Type : **MCQ**
Question ID : **264330136823**
Option 1 ID : **264330535987**
Option 2 ID : **264330535989**
Option 3 ID : **264330535990**
Option 4 ID : **264330535988**
Status : **Answered**
Chosen Option : **1**

Q.10 Select the appropriate antonym for the underlined word.
The new government's domestic policies could easily undermine the main foreign policy.

- Ans**
- 1. Enhance
 - 2. Cripple
 - 3. Weaken
 - 4. Spoil

Question Type : **MCQ**
Question ID : **264330136840**
Option 1 ID : **264330536054**
Option 2 ID : **264330536052**
Option 3 ID : **264330536051**
Option 4 ID : **264330536053**
Status : **Answered**
Chosen Option : **1**

Q.11 Choose the word that is opposite in meaning to the given word.

Impossible

- Ans
- 1. Unlikely
 - 2. Unsure
 - 3. Shaky
 - 4. Applicable

Question Type : MCQ
Question ID : 264330135196
Option 1 ID : 264330529712
Option 2 ID : 264330529711
Option 3 ID : 264330529713
Option 4 ID : 264330529714
Status : Answered
Chosen Option : 4

Q.12 Select the most appropriate option to fill in the blank.

According to the politician, using vulgar language to _____ votes is not something he will endorse.

- Ans
- 1. garner
 - 2. divulge
 - 3. segregate
 - 4. lump

Question Type : MCQ
Question ID : 264330136846
Option 1 ID : 264330536076
Option 2 ID : 264330536075
Option 3 ID : 264330536078
Option 4 ID : 264330536077
Status : Answered
Chosen Option : 1

Q.13 Select the appropriate synonym for the underlined word.

Go back to your image description.

- Ans
- 1. Definition
 - 2. Plan
 - 3. Function
 - 4. Deception

Question Type : MCQ
Question ID : 264330136837
Option 1 ID : 264330536040
Option 2 ID : 264330536039
Option 3 ID : 264330536042
Option 4 ID : 264330536041
Status : Answered
Chosen Option : 1

Q.14 Choose the incorrectly spelt word.

- Ans** 1. Glovve
 2. Hide
 3. Fold
 4. Wider

Question Type : **MCQ**
Question ID : **264330136843**
Option 1 ID : **264330536063**
Option 2 ID : **264330536064**
Option 3 ID : **264330536066**
Option 4 ID : **264330536065**
Status : **Answered**
Chosen Option : **1**

Q.15 In the following question, out of the given four alternatives, select the alternative which best expresses the meaning of the Idiom/Phrase.
The black sheep

- Ans** 1. The least reputable member of a group
 2. A friend who betrays
 3. A stupid or foolish person
 4. A day of importance

Question Type : **MCQ**
Question ID : **264330136842**
Option 1 ID : **264330536060**
Option 2 ID : **264330536062**
Option 3 ID : **264330536059**
Option 4 ID : **264330536061**
Status : **Answered**
Chosen Option : **1**

Q.16 Select the most appropriate option to fill in the blank.

I was really hoping to _____ a decent movie this time, and I came up with an undisputed classic.

- Ans** 1. tirade
 2. strut
 3. unearth
 4. subside

Question Type : **MCQ**
Question ID : **264330136533**
Option 1 ID : **264330534874**
Option 2 ID : **264330534871**
Option 3 ID : **264330534872**
Option 4 ID : **264330534873**
Status : **Answered**
Chosen Option : **2**

Q.17 Select the word from the options which is similar in meaning to the bracketed word given in the sentence below.

I had a (toddler) at home and two other children at school.

- Ans**
- 1. newborn
 - 2. adult
 - 3. senior
 - 4. ancient

Question Type : **MCQ**
Question ID : **264330136604**
Option 1 ID : **264330535143**
Option 2 ID : **264330535144**
Option 3 ID : **264330535145**
Option 4 ID : **264330535146**
Status : **Answered**
Chosen Option : **1**

Q.18 Find the part of the given sentence that has an error in it. If there is no error, choose 'No error'.

Peoples might confess just to get out of the interrogation room.

- Ans**
- 1. just to get out of
 - 2. Peoples might confess
 - 3. No error
 - 4. the interrogation room.

Question Type : **MCQ**
Question ID : **264330134477**
Option 1 ID : **264330526876**
Option 2 ID : **264330526875**
Option 3 ID : **264330526878**
Option 4 ID : **264330526877**
Status : **Answered**
Chosen Option : **2**

Q.19 A sentence has been given with a blank to be filled with an appropriate option. Choose the correct alternative.

Apple's success attracted the _____ of the computer giant IBM.

- Ans**
- 1. attend
 - 2. attending
 - 3. attentive
 - 4. attention

Question Type : **MCQ**
Question ID : **264330136827**
Option 1 ID : **264330536004**
Option 2 ID : **264330536005**
Option 3 ID : **264330536006**
Option 4 ID : **264330536003**
Status : **Answered**
Chosen Option : **4**

Q.20 Choose the word that can substitute the given group of words.

A place of refugee

- Ans**
- 1. Hospice
 - 2. Shelter
 - 3. Asylum
 - 4. Home

Question Type : **MCQ**

Question ID : **264330136836**

Option 1 ID : **264330536038**

Option 2 ID : **264330536035**

Option 3 ID : **264330536037**

Option 4 ID : **264330536036**

Status : **Answered**

Chosen Option : **2**

Comprehension:

In the following passage some of the words have been deleted. Read the passage carefully and select the correct answer for the given blank out of the four alternatives.

These people remind me of a harmony that exists with the natural world. They know their environment in a (1) _____ that can only be acquired (2) _____ living on equal footing with the natural world, not in (3) _____ through a recognition that humans are dependent (4) _____ our surroundings, something those of us who live in towns and cities too (5) _____ forget.

SubQuestion No : 21

Q.21 Select the most appropriate option to fill in blank number 1.

- Ans**
- 1. way
 - 2. line
 - 3. time
 - 4. style

Question Type : **MCQ**

Question ID : **264330135187**

Option 1 ID : **264330529675**

Option 2 ID : **264330529677**

Option 3 ID : **264330529676**

Option 4 ID : **264330529678**

Status : **Answered**

Chosen Option : **1**

Comprehension:

In the following passage some of the words have been deleted. Read the passage carefully and select the correct answer for the given blank out of the four alternatives.

These people remind me of a harmony that exists with the natural world. They know their environment in a (1) _____ that can only be acquired (2) _____ living on equal footing with the natural world, not in (3) _____ through a recognition that humans are dependent (4) _____ our surroundings, something those of us who live in towns and cities too (5) _____ forget.

SubQuestion No : 22

Q.22 Select the most appropriate option to fill in blank number 2.

- Ans
- 1. to
 - 2. through
 - 3. for
 - 4. with

Question Type : **MCQ**
Question ID : **264330135188**
Option 1 ID : **264330529681**
Option 2 ID : **264330529682**
Option 3 ID : **264330529680**
Option 4 ID : **264330529679**
Status : **Answered**
Chosen Option : **2**

Comprehension:

In the following passage some of the words have been deleted. Read the passage carefully and select the correct answer for the given blank out of the four alternatives.

These people remind me of a harmony that exists with the natural world. They know their environment in a (1) _____ that can only be acquired (2) _____ living on equal footing with the natural world, not in (3) _____ through a recognition that humans are dependent (4) _____ our surroundings, something those of us who live in towns and cities too (5) _____ forget.

SubQuestion No : 23

Q.23 Select the most appropriate option to fill in blank number 3.

- Ans
- 1. domination
 - 2. corporation
 - 3. opposition
 - 4. collection

Question Type : **MCQ**
Question ID : **264330135189**
Option 1 ID : **264330529684**
Option 2 ID : **264330529686**
Option 3 ID : **264330529685**
Option 4 ID : **264330529683**
Status : **Answered**
Chosen Option : **3**

Comprehension:

In the following passage some of the words have been deleted. Read the passage carefully and select the correct answer for the given blank out of the four alternatives.

These people remind me of a harmony that exists with the natural world. They know their environment in a (1) _____ that can only be acquired (2) _____ living on equal footing with the natural world, not in (3) _____ through a recognition that humans are dependent (4) _____ our surroundings, something those of us who live in towns and cities too (5) _____ forget.

SubQuestion No : 24

Q.24 Select the most appropriate option to fill in blank number 4.

- Ans
- 1. to
 - 2. of
 - 3. on
 - 4. in

Question Type : **MCQ**
Question ID : **264330135190**
Option 1 ID : **264330529690**
Option 2 ID : **264330529687**
Option 3 ID : **264330529688**
Option 4 ID : **264330529689**
Status : **Answered**
Chosen Option : **3**

Comprehension:

In the following passage some of the words have been deleted. Read the passage carefully and select the correct answer for the given blank out of the four alternatives.

These people remind me of a harmony that exists with the natural world. They know their environment in a (1) _____ that can only be acquired (2) _____ living on equal footing with the natural world, not in (3) _____ through a recognition that humans are dependent (4) _____ our surroundings, something those of us who live in towns and cities too (5) _____ forget.

SubQuestion No : 25

Q.25 Select the most appropriate option to fill in blank number 5.

- Ans
- 1. marginally
 - 2. highly
 - 3. easily
 - 4. equally

Question Type : **MCQ**
Question ID : **264330135191**
Option 1 ID : **264330529693**
Option 2 ID : **264330529692**
Option 3 ID : **264330529694**
Option 4 ID : **264330529691**
Status : **Answered**
Chosen Option : **3**

Multi Tasking Non Technical Staff and Havaladar CBIC and CBN Examination 2022

Roll Number	KD Job Updates
Candidate Name	KD Job Updates
Venue Name	Bihar Digital World
Exam Date	11/05/2023
Exam Time	12:00 PM - 2:00 PM
Subject	MTS Non Tech Havaladar CBIC and CBN Examination 2022

Section : Numerical and Mathematical Ability

Q.1 65 cm त्रिज्या वाले गोले का आयतन क्या होगा? (लगभग)

Ans 1. $1.15 \times 10^6 \text{ cm}^3$

2. $6 \times 10^6 \text{ cm}^3$

3. $4.5 \times 10^6 \text{ cm}^3$

4. $2 \times 10^6 \text{ cm}^3$

Question Type : MCQ

Question ID : 264330135106

Option 1 ID : 264330529359

Option 2 ID : 264330529362

Option 3 ID : 264330529360

Option 4 ID : 264330529361

Status : Answered

Chosen Option : 1

Q.2 निम्न तालिका में एक कंपनी के 5 साझेदारों (partners) की वर्तमान साझेदारी (present share) को दर्शाया गया है।

यदि कंपनी ने अपने पाँच साझेदारों के बीच अपने 100000 शेयर वितरित किए हैं और राजू अपने 15200 शेयर रमेश

को बेच देता है, तो रमेश के पास कितने शेयर होंगे?

Partners	Present Share (in %)
Bala	5
Shankar	15
Raju	45
Ramesh	25
Pradeep	10

Partners- साझेदार, Present share (in %)- वर्तमान साझेदारी (% में), Raju- राजू, Ramesh- रमेश

Bala- बाला, Shankar- शंकर, Pradeep- प्रदीप

- Ans
- 1. 45000
 - 2. 25000
 - 3. 40200
 - 4. 29800

Question Type : MCQ

Question ID : 264330133811

Option 1 ID : 264330524269

Option 2 ID : 264330524267

Option 3 ID : 264330524270

Option 4 ID : 264330524268

Status : Answered

Chosen Option : 3

Q.3 A और B ने क्रमशः Rs.15000 और Rs.30000 के साथ एक व्यवसाय शुरू किया। यदि A और B क्रमशः 1 : 5 के अनुपात में लाभ साझा करते हैं, तो A और B के लिए निवेश की समयावधि का क्रमशः अनुपात क्या है?

- Ans
- 1. 2 : 7
 - 2. 1 : 2
 - 3. 2 : 5
 - 4. 2 : 3

Question Type : MCQ

Question ID : 264330135052

Option 1 ID : 264330529146

Option 2 ID : 264330529145

Option 3 ID : 264330529144

Option 4 ID : 264330529143

Status : Answered

Chosen Option : 3

Q.4 एक व्यक्ति ने साधारण ब्याज पर 6 प्रतिशत वार्षिक दर पर एक निश्चित धनराशि ऋण पर दी और 13 वर्षों में प्राप्त हुआ ब्याज, ऋण पर दी गई धनराशि से Rs. 220 कम है। ऋण पर दी गई धनराशि कितनी है?

- Ans**
- ✓ 1. Rs. 1000
 - ✗ 2. Rs. 800
 - ✗ 3. Rs. 600
 - ✗ 4. Rs. 1200

Question Type : **MCQ**

Question ID : **264330137141**

Option 1 ID : **264330537208**

Option 2 ID : **264330537210**

Option 3 ID : **264330537207**

Option 4 ID : **264330537209**

Status : **Answered**

Chosen Option : **1**

Q.5 एक कूलर का क्रय मूल्य Rs. 4800 है। यदि लाभ प्रतिशत 26 प्रतिशत है, तो कूलर का विक्रय मूल्य क्या है?

- Ans**
- ✓ 1. Rs.6048
 - ✗ 2. Rs.6248
 - ✗ 3. Rs.5628
 - ✗ 4. Rs.6640

Question Type : **MCQ**

Question ID : **264330137181**

Option 1 ID : **264330537368**

Option 2 ID : **264330537369**

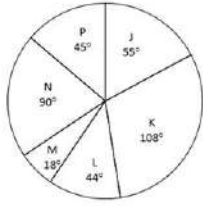
Option 3 ID : **264330537367**

Option 4 ID : **264330537370**

Status : **Answered**

Chosen Option : **1**

Q.6 नीचे दिए गए वृत्त आलेख में एक वर्ष में छः कंपनियों द्वारा बनाए गए ट्रकों की संख्या को दर्शाया गया है। इन सभी छः कंपनियों द्वारा बनाए गए कुल ट्रक 1440 हैं। इनमें से किसी एक विशिष्ट कंपनी द्वारा बनाए गए ट्रकों की संख्या को इन सभी छः कंपनियों द्वारा बनाए गए कुल ट्रकों की संख्या के संदर्भ में डिग्री के रूप में दर्शाया गया है।



K और P द्वारा बनाए गए ट्रकों की औसत संख्या और J और M द्वारा बनाए गए ट्रकों की औसत संख्या के बीच कितना अंतर है?

- Ans**
- ✓ 1. 160
 - ✗ 2. 176
 - ✗ 3. 162
 - ✗ 4. 190

Question Type : **MCQ**

Question ID : **264330135063**

Option 1 ID : **264330529188**

Option 2 ID : **264330529190**

Option 3 ID : **264330529187**

Option 4 ID : **264330529189**

Status : **Answered**

Chosen Option : **1**

Q.7 एक आदमी अकेले किसी कार्य को 16 दिनों में कर सकता है, लेकिन अपने मित्र की मदद से वह इसे 8 दिनों में कर सकता है। उसका मित्र अकेले इस कार्य को कितने समय में कर सकता है?

- Ans**
- ✗ 1. 14 दिन
 - ✗ 2. 10 दिन
 - ✓ 3. 16 दिन
 - ✗ 4. 12 दिन

Question Type : **MCQ**

Question ID : **264330138361**

Option 1 ID : **264330542053**

Option 2 ID : **264330542051**

Option 3 ID : **264330542054**

Option 4 ID : **264330542052**

Status : **Answered**

Chosen Option : **3**

Q.8 $\frac{196}{7} \div \frac{35}{12}$ of $\frac{132}{55} \times \frac{45}{20}$ का मान क्या है?

- Ans
- 1. 45
 - 2. 4
 - 3. 36
 - 4. 9

Question Type : MCQ
Question ID : 264330137681
Option 1 ID : 264330539334
Option 2 ID : 264330539331
Option 3 ID : 264330539333
Option 4 ID : 264330539332
Status : Answered
Chosen Option : 4

Q.9 यदि A, B से 6 गुना अधिक है, तो B, A से कितने प्रतिशत कम है?

- Ans
- 1. 85.71 प्रतिशत
 - 2. 28.56 प्रतिशत
 - 3. 33.33 प्रतिशत
 - 4. 14.28 प्रतिशत

Question Type : MCQ
Question ID : 264330137136
Option 1 ID : 264330537188
Option 2 ID : 264330537189
Option 3 ID : 264330537187
Option 4 ID : 264330537190
Status : Answered
Chosen Option : 1

Q.10 $0.005 \times [(0.08 \div 0.002) - (0.012 \div 0.04)] \div 0.01$ का मान है:

- Ans
- 1. 0.985
 - 2. 19.85
 - 3. 0.01985
 - 4. 0.1985

Question Type : MCQ
Question ID : 264330133797
Option 1 ID : 264330524214
Option 2 ID : 264330524211
Option 3 ID : 264330524212
Option 4 ID : 264330524213
Status : Answered
Chosen Option : 2

Q.11 एक कार A से B तक 44 Km/hr की चाल से यात्रा करती है और B से A तक 66 Km/hr की चाल से वापस आती है। पूरी यात्रा के दौरान उसकी औसत चाल ज्ञात कीजिए।

- Ans
- 1. 68.2 Km/hr
 - 2. 63.3 Km/hr
 - 3. 52.8 Km/hr
 - 4. 55.4 Km/hr

Question Type : MCQ

Question ID : 264330135395

Option 1 ID : 264330530490

Option 2 ID : 264330530487

Option 3 ID : 264330530489

Option 4 ID : 264330530488

Status : Answered

Chosen Option : 3

Q.12 एक कुर्सी का अंकित मूल्य उसके क्रय मूल्य से 10 प्रतिशत अधिक है। यदि कुर्सी को Rs.140 के बड़े के पश्चात Rs.300 में बेचा जाता है, तो हानि प्रतिशत क्या होगा?

- Ans
- 1. 12.5 प्रतिशत
 - 2. 17 प्रतिशत
 - 3. 25 प्रतिशत
 - 4. 20 प्रतिशत

Question Type : MCQ

Question ID : 264330135055

Option 1 ID : 264330529157

Option 2 ID : 264330529158

Option 3 ID : 264330529156

Option 4 ID : 264330529155

Status : Answered

Chosen Option : 3

Q.13 यदि $(3x + y) : (3x - y) = 4 : 3$, तो $x : y$ का मान क्या है?

- Ans
- 1. 7 : 3
 - 2. 7 : 4
 - 3. 5 : 2
 - 4. 5 : 3

Question Type : MCQ

Question ID : 264330135051

Option 1 ID : 264330529139

Option 2 ID : 264330529141

Option 3 ID : 264330529142

Option 4 ID : 264330529140

Status : Answered

Chosen Option : 1

Q.14 एक मिश्रण में दूध और पानी का अनुपात 9:5 है। जब इस मिश्रण में 6 लीटर पानी मिला दिया जाता है, तो दूध और पानी का अनुपात 9:7 हो जाता है। मिश्रण में दूध की मात्रा ज्ञात कीजिए।

- Ans
- 1. 15 लीटर
 - 2. 30 लीटर
 - 3. 27 लीटर
 - 4. 18 लीटर

Question Type : MCQ

Question ID : 264330135394

Option 1 ID : 264330530484

Option 2 ID : 264330530483

Option 3 ID : 264330530486

Option 4 ID : 264330530485

Status : Answered

Chosen Option : 3

Q.15 एक आदमी एक निश्चित दूरी का आधा भाग 60 km/hr की चाल से तय करता है। वह शेष दूरी का 40 प्रतिशत भाग 12 km/hr की चाल से और शेष दूरी 18 km/hr की चाल से तय करता है। पूरी यात्रा के दौरान उसकी औसत चाल क्या है?

- Ans
- 1. 58/3 km/hr
 - 2. 24 km/hr
 - 3. 40 km/hr
 - 4. 36 km/hr

Question Type : MCQ

Question ID : 264330135044

Option 1 ID : 264330529114

Option 2 ID : 264330529111

Option 3 ID : 264330529113

Option 4 ID : 264330529112

Status : Answered

Chosen Option : 2

Q.16 एक खेल के मैदान के चारों ओर एक वृत्ताकार पथ है। राहुल को मैदान का एक चक्कर लगाने में 15 मिनट लगते हैं, जबकि अनिल को इसमें 18 मिनट लगते हैं। मान लीजिए कि वे दोनों एक ही बिंदु से और एक ही समय पर शुरू करते हैं और एक ही दिशा में जाते हैं, तो कितने मिनट बाद वे फिर से प्रारंभिक बिंदु पर मिलेंगे?

- Ans
- 1. 120 मिनट
 - 2. 90 मिनट
 - 3. 100 मिनट
 - 4. 80 मिनट

Question Type : MCQ

Question ID : 264330135059

Option 1 ID : 264330529172

Option 2 ID : 264330529174

Option 3 ID : 264330529173

Option 4 ID : 264330529171

Status : Answered

Chosen Option : 2

Q.17 एक शंकु का आधार व्यास 12 cm और ऊँचाई 21.7 cm है। उस शंकु का आयतन कितना है?

- Ans
- 1. 548.6 cm³
 - 2. 626.3 cm³
 - 3. 818.4 cm³
 - 4. 334.5 cm³

Question Type : MCQ

Question ID : 264330134100

Option 1 ID : 264330525424

Option 2 ID : 264330525423

Option 3 ID : 264330525426

Option 4 ID : 264330525425

Status : Answered

Chosen Option : 3

Q.18 एक आयत में, विकर्ण उसकी चौड़ाई का 4 गुना है। लंबाई और चौड़ाई का अनुपात है:

- Ans
- 1. 1 : 5
 - 2. 1 : $\sqrt{5}$
 - 3. $\sqrt{5}$: 1
 - 4. $\sqrt{15}$: 1

Question Type : MCQ

Question ID : 264330138365

Option 1 ID : 264330542068

Option 2 ID : 264330542067

Option 3 ID : 264330542070

Option 4 ID : 264330542069

Status : Answered

Chosen Option : 4

Q.19 एक धनराशि पर 12 प्रतिशत वार्षिक दर से 6 वर्षों के लिए साधारण ब्याज Rs. 28800 है। समान धनराशि पर 20 प्रतिशत वार्षिक दर से (वार्षिक रूप से संयोजित) 2 वर्षों के लिए चक्रवृद्धि ब्याज कितना होगा?

- Ans
- 1. Rs. 19200
 - 2. Rs. 17600
 - 3. Rs. 12000
 - 4. Rs. 14400

Question Type : MCQ

Question ID : 264330137164

Option 1 ID : 264330537300

Option 2 ID : 264330537299

Option 3 ID : 264330537302

Option 4 ID : 264330537301

Status : Answered

Chosen Option : 2

Q.20 रिम्मी और सिम्मी मिलकर एक कार्य को 40 दिनों में पूरा कर सकती हैं। उन्होंने 30 दिनों तक साथ कार्य किया और फिर सिम्मी ने कार्य छोड़ दिया। 30 और दिनों के बाद रिम्मी ने शेष कार्य अकेले ही पूरा कर दिया। रिम्मी अकेले उस कार्य को कितने दिनों में पूरा कर सकती है?

- Ans**
- 1. 40 दिन
 - 2. 30 दिन
 - 3. 120 दिन
 - 4. 80 दिन

Question Type : **MCQ**
Question ID : **264330134095**
Option 1 ID : **264330525404**
Option 2 ID : **264330525403**
Option 3 ID : **264330525406**
Option 4 ID : **264330525405**
Status : **Answered**
Chosen Option : **3**

Section : Reasoning Ability and Problem Solving

Q.1 दी गई श्रृंखला में निम्नलिखित में से कौन-सा अक्षर प्रश्न चिन्ह (?) के स्थान पर आएगा?
H, J, L, N, P, R, T, ?

- Ans**
- 1. T
 - 2. M
 - 3. V
 - 4. R

Question Type : **MCQ**
Question ID : **264330134932**
Option 1 ID : **264330528664**
Option 2 ID : **264330528665**
Option 3 ID : **264330528663**
Option 4 ID : **264330528666**
Status : **Answered**
Chosen Option : **3**

Q.2 उस विकल्प को चुनिए जो छठी संख्या से ठीक उसी प्रकार संबंधित है जिस प्रकार पहली संख्या दूसरी संख्या से संबंधित है और तीसरी संख्या चौथी संख्या से संबंधित है।

12 : 132 :: 8 : 56 :: ? : 20

- Ans**
- 1. 5
 - 2. 7
 - 3. 6
 - 4. 4

Question Type : **MCQ**
Question ID : **264330137101**
Option 1 ID : **264330537047**
Option 2 ID : **264330537050**
Option 3 ID : **264330537049**
Option 4 ID : **264330537048**
Status : **Answered**
Chosen Option : **1**

Q.3 एक निश्चित कूट भाषा में, 'HANDLE' को 'FLENBH' लिखा जाता है। उस कूट भाषा में 'LOVELY' को कैसे लिखा जाएगा?

- Ans
- 1. ZLVFPL
 - 2. XLFVPL
 - 3. ZLFVLP
 - 4. ZLFVPL

Question Type : MCQ

Question ID : 264330135567

Option 1 ID : 264330531170

Option 2 ID : 264330531169

Option 3 ID : 264330531167

Option 4 ID : 264330531168

Status : Answered

Chosen Option : 4

Q.4 दी गई दो संख्याओं को आपस में बदलने पर, समीकरण (I) और (II) के क्रमशः मान क्या होंगे?

7 और 8

I. $5 \times 7 + 6 \div 2 - 8$

II. $8 + 3 \times 7 - 5 \div 1$

- Ans
- 1. 36 और 26
 - 2. 20 और 18
 - 3. 20 और 19
 - 4. 36 और 16

Question Type : MCQ

Question ID : 264330137126

Option 1 ID : 264330537148

Option 2 ID : 264330537150

Option 3 ID : 264330537147

Option 4 ID : 264330537149

Status : Answered

Chosen Option : 1

- Q.5** दो कथन दिए गए हैं और दो निष्कर्ष I और II दिए गए हैं। कथनों को सत्य मानते हुए, चाहे वे सामान्यतः ज्ञात तथ्यों से अलग प्रतीत होते हों, निश्चय कीजिए कि कौन-सा निष्कर्ष तार्किक रूप से कथनों के अनुसार है।
कथन:
सभी चूहे, सड़कें हैं।
सभी सड़कें, बैग हैं।
निष्कर्ष:
I. सभी बैग, चूहे हैं।
II. कुछ बैग, चूहे हैं।

- Ans**
- 1. दोनों निष्कर्ष I और II कथनों के अनुसार हैं।
 - 2. न तो निष्कर्ष I और न ही II कथनों के अनुसार है।
 - 3. केवल निष्कर्ष I कथनों के अनुसार है।
 - 4. केवल निष्कर्ष II कथनों के अनुसार है।

Question Type : **MCQ**
Question ID : **264330134943**
Option 1 ID : **264330528709**
Option 2 ID : **264330528710**
Option 3 ID : **264330528707**
Option 4 ID : **264330528708**
Status : **Answered**
Chosen Option : **4**

- Q.6** A, B, C, D और E एक पंक्ति में उत्तर की ओर मुख करके खड़े हैं। A किसी एक छोर पर खड़ा है। B और C एक दूसरे के आसन्न खड़े हैं। D बाएँ छोर से दूसरे स्थान पर खड़ा है। E, C के बाएँ से तीसरे स्थान पर खड़ा है। A के आसन्न कौन खड़ा है?

- Ans**
- 1. C
 - 2. E
 - 3. D
 - 4. B

Question Type : **MCQ**
Question ID : **264330134940**
Option 1 ID : **264330528698**
Option 2 ID : **264330528695**
Option 3 ID : **264330528696**
Option 4 ID : **264330528697**
Status : **Answered**
Chosen Option : **1**

- Q.7** एक निश्चित कूट भाषा में, 'BEAR' को '2519' और 'TURN' को '2395' लिखा जाता है। उस भाषा में 'SING' को कैसे लिखा जाएगा?

- Ans**
- 1. 1957
 - 2. 1579
 - 3. 1597
 - 4. 1498

Question Type : **MCQ**
Question ID : **264330137857**
Option 1 ID : **264330540037**
Option 2 ID : **264330540035**
Option 3 ID : **264330540036**
Option 4 ID : **264330540038**
Status : **Answered**
Chosen Option : **3**

Q.8 दी गई श्रृंखला में निम्नलिखित में से कौन-सी संख्या प्रश्न चिन्ह (?) के स्थान पर आएगी?
15, 23, 19, 20, 23, 17, 27, 14, 31, 11, ?

- Ans 1. 35
 2. 15
 3. 19
 4. 32

Question Type : MCQ
Question ID : 264330134946
Option 1 ID : 264330528722
Option 2 ID : 264330528719
Option 3 ID : 264330528721
Option 4 ID : 264330528720
Status : Answered
Chosen Option : 1

Q.9 उस विकल्प को चुनिए जो तीसरे अक्षर समूह से ठीक उसी प्रकार संबंधित है जिस प्रकार दूसरा अक्षर समूह पहले अक्षर समूह से संबंधित है।
DG : KN :: JM : ?

- Ans 1. QS
 2. RM
 3. QT
 4. ST

Question Type : MCQ
Question ID : 264330134934
Option 1 ID : 264330528671
Option 2 ID : 264330528672
Option 3 ID : 264330528673
Option 4 ID : 264330528674
Status : Answered
Chosen Option : 3

Q.10 उस विकल्प को चुनिए जो पाँचवें पद से ठीक उसी प्रकार संबंधित है जिस प्रकार दूसरा पद पहले पद से संबंधित है और चौथा पद तीसरे पद से संबंधित है।

RK46 : TJ51 :: PJ129 : RI134 :: SR53 : ?

- Ans 1. VR58
 2. UQ58
 3. VS58
 4. VQ58

Question Type : MCQ
Question ID : 264330138830
Option 1 ID : 264330543930
Option 2 ID : 264330543929
Option 3 ID : 264330543928
Option 4 ID : 264330543927
Status : Answered
Chosen Option : 2

Q.11 निम्नलिखित प्रश्न में, दी गई श्रृंखला में लुप्त संख्या को चुनिए।

208, 104, 52, 26, ?, 6.5

- Ans
- 1. 18
 - 2. 24
 - 3. 13
 - 4. 20

Question Type : MCQ

Question ID : 264330137099

Option 1 ID : 264330537039

Option 2 ID : 264330537042

Option 3 ID : 264330537040

Option 4 ID : 264330537041

Status : Answered

Chosen Option : 3

Q.12 पाँच मित्र M, N, O, P और Q एक वृत्ताकार मेज पर केंद्र से बाहर की ओर मुख करके बैठे हैं। O, P के ठीक बाएँ पर बैठा है जो Q के दाएँ से तीसरे स्थान पर बैठा है। M, P के आसन्न नहीं बैठा है। P के ठीक दाएँ पर कौन बैठा है?

- Ans
- 1. M
 - 2. O
 - 3. N
 - 4. Q

Question Type : MCQ

Question ID : 264330134941

Option 1 ID : 264330528700

Option 2 ID : 264330528702

Option 3 ID : 264330528699

Option 4 ID : 264330528701

Status : Answered

Chosen Option : 4

Q.13 तीन कथन दिए गए हैं और दो निष्कर्ष I और II दिए गए हैं। कथनों को सत्य मानते हुए, चाहे वे सामान्यतः ज्ञात तथ्यों से अलग प्रतीत होते हों, निश्चय कीजिए कि कौन-सा निष्कर्ष तार्किक रूप से कथनों के अनुसार है।

कथन:

कुछ फल, खरगोश हैं।

कोई खरगोश, लोमड़ी नहीं है।

सभी लोमड़ियाँ, गाय हैं।

निष्कर्ष:

I. कुछ गाय, फल हैं।

II. कुछ फल, लोमड़ियाँ हैं।

Ans

1. केवल निष्कर्ष I कथनों के अनुसार है।
2. दोनों निष्कर्ष I और II कथनों के अनुसार हैं।
3. केवल निष्कर्ष II कथनों के अनुसार है।
4. न तो निष्कर्ष I और न ही II कथनों के अनुसार है।

Question Type : MCQ

Question ID : 264330134944

Option 1 ID : 264330528711

Option 2 ID : 264330528713

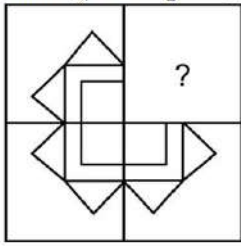
Option 3 ID : 264330528712

Option 4 ID : 264330528714

Status : Answered

Chosen Option : 4

Q.14 उस विकल्प आकृति को चुनिए जो नीचे दी गई आकृति में पैटर्न को पूरा करने के लिए प्रश्न चिन्ह (?) के स्थान पर आएगी। (घूर्णन की अनुमति नहीं है)



Ans

✗ 1.



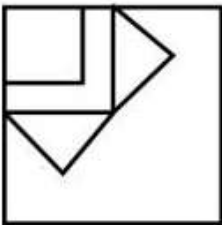
✓ 2.



✗ 3.



✗ 4.



Question Type : MCQ

Question ID : 264330134953

Option 1 ID : 264330528748

Option 2 ID : 264330528750

Option 3 ID : 264330528749

Option 4 ID : 264330528747

Status : Answered

Chosen Option : 2

Q.15 दिए गए समीकरण को सही करने के लिए किन दो संख्याओं को आपस में बदला जाना चाहिए?
 $8 \times 4 - 3 + 57 \div 9 = 42$

- Ans
- 1. 8 और 4
 - 2. 57 और 9
 - 3. 3 और 9
 - 4. 42 और 57

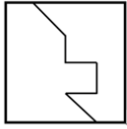
Question Type : MCQ
Question ID : 264330134949
Option 1 ID : 264330528731
Option 2 ID : 264330528733
Option 3 ID : 264330528732
Option 4 ID : 264330528734
Status : Answered
Chosen Option : 3

Q.16 एक निश्चित कूट भाषा में, 'SHORT' को '1' लिखा जाता है और 'THEME' को '2' लिखा जाता है। उस कूट भाषा में 'TRAIN' को कैसे लिखा जाएगा?

- Ans
- 1. 4
 - 2. 1
 - 3. 2
 - 4. 3

Question Type : MCQ
Question ID : 264330133489
Option 1 ID : 264330522990
Option 2 ID : 264330522989
Option 3 ID : 264330522987
Option 4 ID : 264330522988
Status : Answered
Chosen Option : 3

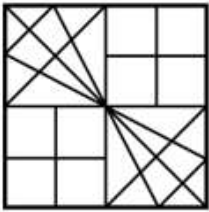
Q.17 उस विकल्प आकृति को चुनिए जिसमें दी गई आकृति (X) उसके भाग के रूप में निहित है (पूर्ण की अनुमति नहीं है)।



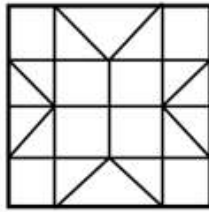
(X)

Ans

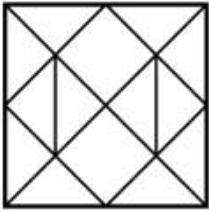
✗ 1.



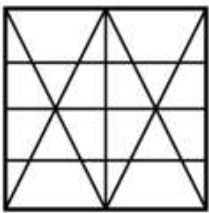
✓ 2.



✗ 3.



✗ 4.



Question Type : MCQ

Question ID : 264330133523

Option 1 ID : 264330523125

Option 2 ID : 264330523126

Option 3 ID : 264330523123

Option 4 ID : 264330523124

Status : Answered

Chosen Option : 2

Q.18 दी गई आकृति के उस सही दर्पण प्रतिबिंब को चुनिए, जो नीचे दर्शाए गए अनुसार दर्पण को MN पर रखने पर बनेगा।

TECHNICAL

Ans

- ✓ 1. L A O I N H O E T
- ✗ 2. L I O A N H O E T
- ✗ 3. T E C H N I C A L
- ✗ 4. T E C H N I C A L

Question Type : MCQ

Question ID : 264330133524

Option 1 ID : 264330523127

Option 2 ID : 264330523128

Option 3 ID : 264330523129

Option 4 ID : 264330523130

Status : Answered

Chosen Option : 1

Q.19 दिए गए पैटर्न का ध्यानपूर्वक अध्ययन कीजिए और उस संख्या को चुनिए जो इसमें प्रश्न चिन्ह (?) के स्थान पर आएगी।

पहली पंक्ति- 80, 40, 20

दूसरी पंक्ति- 112, 56, 28

तीसरी पंक्ति- 244, 122, ?

Ans

- ✓ 1. 61
- ✗ 2. 64
- ✗ 3. 78
- ✗ 4. 51

Question Type : MCQ

Question ID : 264330134948

Option 1 ID : 264330528730

Option 2 ID : 264330528728

Option 3 ID : 264330528729

Option 4 ID : 264330528727

Status : Answered

Chosen Option : 1

Q.20 सात लोगों A, B, C, D, E, F और G का कद अलग-अलग है। A चार व्यक्तियों से लंबा है। E का कद केवल एक व्यक्ति से कम है। कितने लोगों के कद, A और E के कद के बीच में हैं?

Ans

- ✗ 1. 2
- ✓ 2. 0
- ✗ 3. 1
- ✗ 4. 3

Question Type : MCQ

Question ID : 264330134942

Option 1 ID : 264330528704

Option 2 ID : 264330528706

Option 3 ID : 264330528703

Option 4 ID : 264330528705

Status : Answered

Chosen Option : 2

Section : General Awareness

Q.1 2011 की जनगणना के अनुसार, भारत के निम्नलिखित केंद्र शासित प्रदेशों में से किस में प्रति वर्ग किलोमीटर जनसंख्या घनत्व सबसे कम है?

- Ans
- 1. चंडीगढ़
 - 2. दिल्ली
 - 3. जम्मू और कश्मीर
 - 4. अंडमान और निकोबार द्वीप समूह

Question Type : MCQ
Question ID : 264330133917
Option 1 ID : 264330524692
Option 2 ID : 264330524691
Option 3 ID : 264330524694
Option 4 ID : 264330524693
Status : Answered
Chosen Option : 4

Q.2 भारतीय उपमहाद्वीप का प्रथम उद्यान-मकबरा कौन-सा है?

- Ans
- 1. औरंगजेब का मकबरा
 - 2. ताजमहल
 - 3. हुमायूँ का मकबरा
 - 4. कुतुब शाही मकबरा

Question Type : MCQ
Question ID : 264330134596
Option 1 ID : 264330527342
Option 2 ID : 264330527341
Option 3 ID : 264330527339
Option 4 ID : 264330527340
Status : Answered
Chosen Option : 4

Q.3 हिमालय की अधिकांश नदियाँ किस प्रकार की हैं?

- Ans
- 1. बारहमासी
 - 2. मौसमी
 - 3. विदेशज
 - 4. घटनापरक

Question Type : MCQ
Question ID : 264330134612
Option 1 ID : 264330527404
Option 2 ID : 264330527403
Option 3 ID : 264330527406
Option 4 ID : 264330527405
Status : Answered
Chosen Option : 1

Q.4 प्रथम फील्ड हेंडबॉल विश्व चैंपियनशिप जर्मनी में सन् _____ में खेली गई थी।

- Ans
- 1. 1948
 - 2. 1958
 - 3. 1928
 - 4. 1938

Question Type : MCQ

Question ID : 264330137015

Option 1 ID : 264330536705

Option 2 ID : 264330536706

Option 3 ID : 264330536703

Option 4 ID : 264330536704

Status : Not Answered

Chosen Option : --

Q.5 बाजीराव प्रथम या बाजीराव बल्लाल _____ के पुत्र थे।

- Ans
- 1. रघुनाथ राव
 - 2. पेशवा बालाजी विश्वनाथ
 - 3. माधवराव
 - 4. शिवाजी

Question Type : MCQ

Question ID : 264330137033

Option 1 ID : 264330536778

Option 2 ID : 264330536777

Option 3 ID : 264330536776

Option 4 ID : 264330536775

Status : Answered

Chosen Option : 2

Q.6 निम्नलिखित में से कौन-सा कार्यक्रम सन् 1999 में शुरू किया गया था?

- Ans
- 1. महात्मा गांधी राष्ट्रीय ग्रामीण रोजगार गारंटी योजना
 - 2. ग्रामीण रोजगार सृजन कार्यक्रम
 - 3. स्वर्णजयंती ग्राम स्वरोजगार योजना
 - 4. प्रधानमंत्री ग्रामोदय योजना

Question Type : MCQ

Question ID : 264330134614

Option 1 ID : 264330527411

Option 2 ID : 264330527412

Option 3 ID : 264330527413

Option 4 ID : 264330527414

Status : Answered

Chosen Option : 3

Q.7 ताप मापने के लिए किस युक्ति (device) का प्रयोग किया जाता है?

- Ans
- 1. ऐमीटर
 - 2. बैरोमीटर
 - 3. मैनोमीटर
 - 4. थर्मामीटर

Question Type : MCQ
Question ID : 264330137027
Option 1 ID : 264330536753
Option 2 ID : 264330536752
Option 3 ID : 264330536754
Option 4 ID : 264330536751
Status : Answered
Chosen Option : 4

Q.8 निम्नलिखित में से कौन-सी पुस्तक मिल्खा सिंह की आत्मकथा है?

- Ans
- 1. रोमांसिंग माई लाइफ (Romancing My Life)
 - 2. टू लाइव्स (Two Lives)
 - 3. द रेस ऑफ माई लाइफ (The Race of My Life)
 - 4. टच प्ले (Touch Play)

Question Type : MCQ
Question ID : 264330135451
Option 1 ID : 264330530711
Option 2 ID : 264330530714
Option 3 ID : 264330530712
Option 4 ID : 264330530713
Status : Answered
Chosen Option : 3

Q.9 उलट रेपो दर (Reverse Repo Rate) का अर्थ क्या है?

- Ans
- 1. वह दर जिस पर आरबीआई (RBI) विदेशी बैंकों से ऋण लेती है
 - 2. वह दर जिस पर व्यावसायिक बैंक आरबीआई (RBI) से ऋण लेते हैं
 - 3. वह दर जिस पर व्यावसायिक बैंक विदेशी बैंकों से ऋण लेते हैं
 - 4. वह दर जिस पर आरबीआई (RBI) व्यावसायिक बैंकों से ऋण लेती है

Question Type : MCQ
Question ID : 264330135458
Option 1 ID : 264330530742
Option 2 ID : 264330530739
Option 3 ID : 264330530741
Option 4 ID : 264330530740
Status : Answered
Chosen Option : 4

Q.10 निम्नलिखित में से किस गुप्त राजा ने नालंदा विश्वविद्यालय की स्थापना की थी?

- Ans
- 1. स्कन्दगुप्त
 - 2. चंद्रगुप्त द्वितीय
 - 3. चंद्रगुप्त प्रथम
 - 4. कुमारगुप्त प्रथम

Question Type : MCQ

Question ID : 264330133994

Option 1 ID : 264330525000

Option 2 ID : 264330525001

Option 3 ID : 264330524999

Option 4 ID : 264330525002

Status : Answered

Chosen Option : 4

Q.11 ऐसी कोशिकाएँ जिनमें केन्द्रक पदार्थ केन्द्रक झिल्ली के बिना होता है _____ कहलाती हैं।

- Ans
- 1. गाल की कोशिकाएँ
 - 2. प्रोकैरियोटिक कोशिकाएँ
 - 3. प्याज की कोशिकाएँ
 - 4. यूकैरियोटिक कोशिकाएँ

Question Type : MCQ

Question ID : 264330137025

Option 1 ID : 264330536746

Option 2 ID : 264330536743

Option 3 ID : 264330536745

Option 4 ID : 264330536744

Status : Answered

Chosen Option : 2

Q.12 महासागर की पर्पटी मुख्यतः _____ एवं _____ की बनी है।

- Ans
- 1. आयरन, एलुमिना
 - 2. सिलिका, मैग्नीशियम
 - 3. मैग्नीशियम, एलुमिना
 - 4. सिलिका, एलुमिना

Question Type : MCQ

Question ID : 264330137026

Option 1 ID : 264330536750

Option 2 ID : 264330536749

Option 3 ID : 264330536748

Option 4 ID : 264330536747

Status : Answered

Chosen Option : 4

Q.13 टुसू (Tusu) झारखंड में सर्दियों में फसल कटाई के अवसर पर _____ माह के अंतिम दिन पर मनाया जाने वाला एक उत्सव है।

- Ans
- 1. फाल्गुन
 - 2. पौष
 - 3. माघ
 - 4. चैत्र

Question Type : MCQ
Question ID : 264330133984
Option 1 ID : 264330524961
Option 2 ID : 264330524959
Option 3 ID : 264330524960
Option 4 ID : 264330524962
Status : Answered
Chosen Option : 2

Q.14 ज्योतिबा फुले ने _____ में सत्यशोधक समाज (सत्य साधक समाज (Truth Seekers' Society)) की स्थापना की।

- Ans
- 1. 1898
 - 2. 1873
 - 3. 1865
 - 4. 1852

Question Type : MCQ
Question ID : 264330133997
Option 1 ID : 264330525012
Option 2 ID : 264330525014
Option 3 ID : 264330525011
Option 4 ID : 264330525013
Status : Answered
Chosen Option : 3

Q.15 1813 के चार्टर अधिनियम ने भारत में ईस्ट इंडिया कंपनी के शासन को अगले _____ वर्षों तक के लिए बढ़ा दिया था।

- Ans
- 1. 20
 - 2. 5
 - 3. 15
 - 4. 10

Question Type : MCQ
Question ID : 264330137051
Option 1 ID : 264330536850
Option 2 ID : 264330536848
Option 3 ID : 264330536849
Option 4 ID : 264330536847
Status : Answered
Chosen Option : 1

Q.16 _____ में बाघ नदी के तट पर स्थित बाघ गुफाएँ (Bagh Caves), जिसमें 9 बौद्ध गुफाएँ हैं, 6वीं शताब्दी में विकसित की गई थीं।

- Ans
- 1. महाराष्ट्र
 - 2. मध्यप्रदेश
 - 3. उत्तरप्रदेश
 - 4. गुजरात

Question Type : MCQ
Question ID : 264330137040
Option 1 ID : 264330536805
Option 2 ID : 264330536803
Option 3 ID : 264330536804
Option 4 ID : 264330536806
Status : Answered
Chosen Option : 2

Q.17 भारत में 'द मोजार्ट ऑफ मद्रास (the Mozart of the Madras)' के नाम से किसे जाना जाता है?

- Ans
- 1. उदित नारायण
 - 2. अरिजीत सिंह
 - 3. एस. पी. बालासुब्रमण्यम
 - 4. ए.आर. रहमान

Question Type : MCQ
Question ID : 264330134600
Option 1 ID : 264330527357
Option 2 ID : 264330527356
Option 3 ID : 264330527358
Option 4 ID : 264330527355
Status : Answered
Chosen Option : 3

Q.18 पानीपत का तीसरा युद्ध सन् _____ में लड़ा गया था।

- Ans
- 1. 1556
 - 2. 1526
 - 3. 1651
 - 4. 1761

Question Type : MCQ
Question ID : 264330134616
Option 1 ID : 264330527419
Option 2 ID : 264330527421
Option 3 ID : 264330527422
Option 4 ID : 264330527420
Status : Answered
Chosen Option : 4

Q.19 If we sum the gross value added of all the firms of the economy in a year, we get a measure of the value of aggregate amount of goods and services produced by the economy in a year. Such an estimate is called _____.

- Ans
- 1. Net national product
 - 2. Gross domestic product
 - 3. Net value added
 - 4. National income at factor price

Question Type : MCQ

Question ID : 264330134604

Option 1 ID : 264330527373

Option 2 ID : 264330527372

Option 3 ID : 264330527374

Option 4 ID : 264330527371

Status : Answered

Chosen Option : 2

Q.20 राजगृह किस महाजनपद की प्रथम राजधानी थी?

- Ans
- 1. अवंती
 - 2. कोसल
 - 3. कुरु
 - 4. मगध

Question Type : MCQ

Question ID : 264330134615

Option 1 ID : 264330527417

Option 2 ID : 264330527415

Option 3 ID : 264330527416

Option 4 ID : 264330527418

Status : Answered

Chosen Option : 4

Q.21 बीमा (संशोधन) अधिनियम, 2021 उस प्रावधान को समाप्त कर देता है जिसके तहत केंद्र सरकार को जनरल इंशोरेंस कंपनी की चार सहायक कंपनियों, अर्थात् नेशनल इंशोरेंस, न्यू इंडिया एश्योरेंस, ओरिएंटल इंशोरेंस, यूनाइटेड इंडिया इंशोरेंस में कम से कम _____ स्वामित्व की आवश्यकता होती थी।

- Ans
- 1. 49%
 - 2. 75%
 - 3. 51%
 - 4. 80%

Question Type : MCQ

Question ID : 264330137037

Option 1 ID : 264330536792

Option 2 ID : 264330536794

Option 3 ID : 264330536793

Option 4 ID : 264330536791

Status : Answered

Chosen Option : 1

Q.22 किस प्रकार की बेरोज़गारी में व्यक्ति अपनी क्षमता से कम योगदान देता है?

- Ans
- 1. प्रतिरोधात्मक बेरोज़गारी
 - 2. चक्रीय बेरोज़गारी
 - 3. अनिवार्य बेरोज़गारी
 - 4. प्रच्छन्न बेरोज़गारी

Question Type : MCQ

Question ID : 264330137773

Option 1 ID : 264330539701

Option 2 ID : 264330539699

Option 3 ID : 264330539702

Option 4 ID : 264330539700

Status : Answered

Chosen Option : 4

Q.23 पंडित बिरजू महाराज को शास्त्रीय नृत्य की किस शैली के लिए पद्म विभूषण पुरस्कार से सम्मानित किया गया था?

- Ans
- 1. मणिपुरी
 - 2. मोहिनीअट्टम
 - 3. कथक
 - 4. झूमर

Question Type : MCQ

Question ID : 264330135453

Option 1 ID : 264330530720

Option 2 ID : 264330530719

Option 3 ID : 264330530722

Option 4 ID : 264330530721

Status : Answered

Chosen Option : 3

Q.24 कथकली ने _____ के संरक्षण में सत्रहवीं शताब्दी में दक्षिण भारत में आकार लिया था।

- Ans
- 1. कर्नाटक के राजकुमार
 - 2. तमिलनाडु के राजकुमार
 - 3. पंजाब के राजकुमार
 - 4. बंगाल के राजकुमार

Question Type : MCQ

Question ID : 264330134594

Option 1 ID : 264330527331

Option 2 ID : 264330527332

Option 3 ID : 264330527333

Option 4 ID : 264330527334

Status : Answered

Chosen Option : 1

Q.25 कौन-सा देश चावल का सबसे बड़ा उत्पादक है?

- Ans
- 1. ब्राज़ील
 - 2. चीन
 - 3. रूस
 - 4. बांग्लादेश

Question Type : MCQ
Question ID : 264330135443
Option 1 ID : 264330530680
Option 2 ID : 264330530679
Option 3 ID : 264330530681
Option 4 ID : 264330530682
Status : Answered
Chosen Option : 2

Section : English Language and Comprehension

Q.1 Identify the segment that contains a grammatical error. If there is no error, select 'No error'

She's considered one/ of a best young/ directors in Hollywood.

- Ans
- 1. directors in Hollywood.
 - 2. No error
 - 3. She's considered one
 - 4. of a best young

Question Type : MCQ
Question ID : 264330136214
Option 1 ID : 264330533649
Option 2 ID : 264330533650
Option 3 ID : 264330533647
Option 4 ID : 264330533648
Status : Answered
Chosen Option : 4

Q.2 Choose the incorrectly spelt word.

- Ans
- 1. Plus
 - 2. Moking
 - 3. Worry
 - 4. Dearest

Question Type : MCQ
Question ID : 264330134741
Option 1 ID : 264330527915
Option 2 ID : 264330527916
Option 3 ID : 264330527917
Option 4 ID : 264330527918
Status : Answered
Chosen Option : 2

Q.3 Select the appropriate synonym for the underlined word.

Paul Bunyan is considered a legend.

- Ans
- 1. spinster
 - 2. volunteer
 - 3. stoic
 - 4. tradition

Question Type : MCQ
Question ID : 264330134735
Option 1 ID : 264330527892
Option 2 ID : 264330527893
Option 3 ID : 264330527891
Option 4 ID : 264330527894
Status : Answered
Chosen Option : 4

Q.4 A sentence has been given with a blank to be filled with an appropriate option. Choose the correct alternative.

_____ months later, Steve returned to New York to look for a job.

- Ans
- 1. The few
 - 2. Few
 - 3. A little
 - 4. A few

Question Type : MCQ
Question ID : 264330134483
Option 1 ID : 264330526901
Option 2 ID : 264330526899
Option 3 ID : 264330526902
Option 4 ID : 264330526900
Status : Answered
Chosen Option : 4

Q.5 Choose the sentence with no spelling error.

- Ans
- 1. Your emergency contacts coldn't be reached.
 - 2. Your emergency contacts couldn't be reached.
 - 3. Your emergency contacts couldn't be reached.
 - 4. Your emergency contatcs couldn't be reached.

Question Type : MCQ
Question ID : 264330134473
Option 1 ID : 264330526861
Option 2 ID : 264330526860
Option 3 ID : 264330526859
Option 4 ID : 264330526862
Status : Answered
Chosen Option : 2

Q.6 In the following question, out of the given four alternatives, select the alternative which best expresses the meaning of the Idiom/Phrase.

To see the light

- Ans**
- 1. To misunderstand the situation
 - 2. To gain conscious
 - 3. Suddenly realize or understand something
 - 4. To be optimistic

Question Type : **MCQ**

Question ID : **264330134740**

Option 1 ID : **264330527912**

Option 2 ID : **264330527914**

Option 3 ID : **264330527913**

Option 4 ID : **264330527911**

Status : **Answered**

Chosen Option : **4**

Q.7 Select the most appropriate option to substitute the bracketed segment in the given sentence. If there is no need to substitute it, select 'no substitution required'.

(Hardly did the ink dried on my weekly column, when) one of my readers called me.

- Ans**
- 1. No substitution required
 - 2. Hardly had the ink dried on last week's column, when
 - 3. Hardly had the ink dry on last week's column, when
 - 4. Hardly did the ink dried on last week's column, when

Question Type : **MCQ**

Question ID : **264330136217**

Option 1 ID : **264330533662**

Option 2 ID : **264330533661**

Option 3 ID : **264330533660**

Option 4 ID : **264330533659**

Status : **Answered**

Chosen Option : **2**

Q.8 Select the most appropriate option to fill in the blank.

The sedative effect of the drugs impairs people's ability to pay attention and _____.

- Ans**
- 1. dilate
 - 2. segregate
 - 3. reverberate
 - 4. concentrate

Question Type : **MCQ**

Question ID : **264330134744**

Option 1 ID : **264330527928**

Option 2 ID : **264330527927**

Option 3 ID : **264330527930**

Option 4 ID : **264330527929**

Status : **Answered**

Chosen Option : **4**

Q.9 Find the part of the given sentence that has an error in it. If there is no error, choose 'No error'.

One-to-one interaction with parents is know to be important.

- Ans
- 1. One-to-one interaction
 - 2. to be important.
 - 3. No error
 - 4. with parents is know

Question Type : MCQ

Question ID : 264330134529

Option 1 ID : 264330527075

Option 2 ID : 264330527077

Option 3 ID : 264330527078

Option 4 ID : 264330527076

Status : Answered

Chosen Option : 4

Q.10 A sentence has been given with a blank to be filled with an appropriate option. Choose the correct alternative.

She kept pictures of her parents all _____ the house.

- Ans
- 1. out
 - 2. through
 - 3. over
 - 4. about

Question Type : MCQ

Question ID : 264330134725

Option 1 ID : 264330527856

Option 2 ID : 264330527857

Option 3 ID : 264330527858

Option 4 ID : 264330527855

Status : Answered

Chosen Option : 3

Q.11 Select the most appropriate option to fill in the blank.
I am going to take you for a _____ up there.

- Ans
- 1. rite
 - 2. right
 - 3. ride
 - 4. write

Question Type : MCQ

Question ID : 264330134474

Option 1 ID : 264330526865

Option 2 ID : 264330526866

Option 3 ID : 264330526864

Option 4 ID : 264330526863

Status : Answered

Chosen Option : 3

Q.12 Improve the underlined part of the sentence. Choose 'No improvement' as an answer if the sentence is grammatically correct.

The accountant of the sugar mill have been deprived of his briefcase.

- Ans**
- 1. is deprive
 - 2. has been deprived
 - 3. was being deprived
 - 4. No improvement

Question Type : **MCQ**
Question ID : **264330134750**
Option 1 ID : **264330527952**
Option 2 ID : **264330527951**
Option 3 ID : **264330527953**
Option 4 ID : **264330527954**
Status : **Answered**
Chosen Option : **2**

Q.13 Choose the word that is opposite in meaning to the given word.

Awful

- Ans**
- 1. Wonderful
 - 2. Dreadful
 - 3. Pitiful
 - 4. Grim

Question Type : **MCQ**
Question ID : **264330135326**
Option 1 ID : **264330530212**
Option 2 ID : **264330530211**
Option 3 ID : **264330530214**
Option 4 ID : **264330530213**
Status : **Answered**
Chosen Option : **1**

Q.14 Improve the underlined part of the sentence. Choose 'No improvement' as an answer if the sentence is grammatically correct.
My history assignment is due on Wednesday.

- Ans**
- 1. were due on
 - 2. No improvement
 - 3. is dues in
 - 4. are due at

Question Type : **MCQ**
Question ID : **264330134427**
Option 1 ID : **264330526684**
Option 2 ID : **264330526686**
Option 3 ID : **264330526685**
Option 4 ID : **264330526683**
Status : **Answered**
Chosen Option : **2**

Q.15 Choose the word that means the same as the given word.
Inquisitive

- Ans**
- 1. Callous
 - 2. Agile
 - 3. Aloof
 - 4. Curious

Question Type : **MCQ**
Question ID : **264330134493**
Option 1 ID : **264330526938**
Option 2 ID : **264330526935**
Option 3 ID : **264330526936**
Option 4 ID : **264330526937**
Status : **Answered**
Chosen Option : **4**

Q.16 In the following question, out of the given four alternatives, select the alternative which best expresses the meaning of the Idiom/Phrase.

From rags to riches

- Ans**
- 1. Reasonable pricing
 - 2. From everywhere
 - 3. To toil very hard to gain something
 - 4. From extreme poverty to wealth

Question Type : **MCQ**
Question ID : **264330135302**
Option 1 ID : **264330530121**
Option 2 ID : **264330530119**
Option 3 ID : **264330530122**
Option 4 ID : **264330530120**
Status : **Answered**
Chosen Option : **4**

Q.17 Choose the word that can substitute the given group of words.

One hard to please (very selective in his habits)

- Ans**
- 1. Incurable
 - 2. Dexterous
 - 3. Sadist
 - 4. Fastidious

Question Type : **MCQ**
Question ID : **264330134734**
Option 1 ID : **264330527887**
Option 2 ID : **264330527888**
Option 3 ID : **264330527889**
Option 4 ID : **264330527890**
Status : **Answered**
Chosen Option : **4**

Q.18 Choose the word that can substitute the given group of words.

A residence for monks or priests

- Ans
- 1. Nursery
 - 2. Monastery
 - 3. Convent
 - 4. Tomb

Question Type : MCQ
Question ID : 264330135296
Option 1 ID : 264330530095
Option 2 ID : 264330530096
Option 3 ID : 264330530097
Option 4 ID : 264330530098
Status : Answered
Chosen Option : 2

Q.19 Find the part of the given sentence that has an error in it. If there is no error, choose 'No error'.

Many female mammals, including rabbits and cats, ovulate only when they mate.

- Ans
- 1. Many female mammals,
 - 2. No error
 - 3. including rabbits and cats, ovulate
 - 4. only when they mate.

Question Type : MCQ
Question ID : 264330134721
Option 1 ID : 264330527839
Option 2 ID : 264330527842
Option 3 ID : 264330527840
Option 4 ID : 264330527841
Status : Not Answered
Chosen Option : --

Q.20 Select the appropriate antonym for the underlined word.

The tension is going to be crucial in determining the fate of your company.

- Ans
- 1. decisive
 - 2. surgical
 - 3. trivial
 - 4. pivotal

Question Type : MCQ
Question ID : 264330134738
Option 1 ID : 264330527904
Option 2 ID : 264330527906
Option 3 ID : 264330527905
Option 4 ID : 264330527903
Status : Answered
Chosen Option : 3

Comprehension:

In the following passage some of the words have been deleted. Read the passage carefully and select the correct answer for the given blank out of the four alternatives.

Red kites were considered vermin across Britain and Ireland (1) _____ the 16th century and their numbers were rigorously (2) _____. While public perceptions have changed, gamekeepers and farmers still (3) _____ shoot, poison and trap red kites for the (4) _____ harm they cause to livestock and game. In 2020 alone, 20 red kites were confirmed to have been (5) _____ this way in the UK.

SubQuestion No : 21

Q.21 Select the most appropriate option to fill in blank number 1.

- Ans**
- 1. while
 - 2. along
 - 3. during
 - 4. across

Question Type : **MCQ**

Question ID : **264330135317**

Option 1 ID : **264330530178**

Option 2 ID : **264330530175**

Option 3 ID : **264330530176**

Option 4 ID : **264330530177**

Status : **Answered**

Chosen Option : **3**

Comprehension:

In the following passage some of the words have been deleted. Read the passage carefully and select the correct answer for the given blank out of the four alternatives.

Red kites were considered vermin across Britain and Ireland (1) _____ the 16th century and their numbers were rigorously (2) _____. While public perceptions have changed, gamekeepers and farmers still (3) _____ shoot, poison and trap red kites for the (4) _____ harm they cause to livestock and game. In 2020 alone, 20 red kites were confirmed to have been (5) _____ this way in the UK.

SubQuestion No : 22

Q.22 Select the most appropriate option to fill in blank number 2.

- Ans**
- 1. loosened
 - 2. controlled
 - 3. changed
 - 4. choked

Question Type : **MCQ**

Question ID : **264330135318**

Option 1 ID : **264330530182**

Option 2 ID : **264330530179**

Option 3 ID : **264330530180**

Option 4 ID : **264330530181**

Status : **Answered**

Chosen Option : **2**

Comprehension:

In the following passage some of the words have been deleted. Read the passage carefully and select the correct answer for the given blank out of the four alternatives.

Red kites were considered vermin across Britain and Ireland (1) _____ the 16th century and their numbers were rigorously (2) _____. While public perceptions have changed, gamekeepers and farmers still (3) _____ shoot, poison and trap red kites for the (4) _____ harm they cause to livestock and game. In 2020 alone, 20 red kites were confirmed to have been (5) _____ this way in the UK.

SubQuestion No : 23

Q.23 Select the most appropriate option to fill in blank number 3.

- Ans**
- 1. randomly
 - 2. illegally
 - 3. fairly
 - 4. unknowingly

Question Type : **MCQ**
Question ID : **264330135319**
Option 1 ID : **264330530186**
Option 2 ID : **264330530185**
Option 3 ID : **264330530183**
Option 4 ID : **264330530184**
Status : **Answered**
Chosen Option : **2**

Comprehension:

In the following passage some of the words have been deleted. Read the passage carefully and select the correct answer for the given blank out of the four alternatives.

Red kites were considered vermin across Britain and Ireland (1) _____ the 16th century and their numbers were rigorously (2) _____. While public perceptions have changed, gamekeepers and farmers still (3) _____ shoot, poison and trap red kites for the (4) _____ harm they cause to livestock and game. In 2020 alone, 20 red kites were confirmed to have been (5) _____ this way in the UK.

SubQuestion No : 24

Q.24 Select the most appropriate option to fill in blank number 4.

- Ans**
- 1. shipped
 - 2. perceived
 - 3. kicked
 - 4. dirty

Question Type : **MCQ**
Question ID : **264330135320**
Option 1 ID : **264330530190**
Option 2 ID : **264330530188**
Option 3 ID : **264330530189**
Option 4 ID : **264330530187**
Status : **Answered**
Chosen Option : **3**

Comprehension:

In the following passage some of the words have been deleted. Read the passage carefully and select the correct answer for the given blank out of the four alternatives.

Red kites were considered vermin across Britain and Ireland (1) _____ the 16th century and their numbers were rigorously (2) _____. While public perceptions have changed, gamekeepers and farmers still (3) _____ shoot, poison and trap red kites for the (4) _____ harm they cause to livestock and game. In 2020 alone, 20 red kites were confirmed to have been (5) _____ this way in the UK.

SubQuestion No : 25

Q.25 Select the most appropriate option to fill in blank number 5.

- Ans**
- 1. awakened
 - 2. killed
 - 3. rooted
 - 4. subjected

Question Type : **MCQ**

Question ID : **264330135321**

Option 1 ID : **264330530193**

Option 2 ID : **264330530194**

Option 3 ID : **264330530191**

Option 4 ID : **264330530192**

Status : **Answered**

Chosen Option : **2**

Multi Tasking Non Technical Staff and Havaladar CBIC and CBN Examination 2022

Roll Number	KD Job Updates
Candidate Name	KD Job Updates
Venue Name	iON Digital Zone iDZ Laxman Nagar
Exam Date	10/05/2023
Exam Time	3:30 PM - 5:00 PM
Subject	MTS Non Tech Havaladar CBIC and CBN Examination 2022

Section : Numerical and Mathematical Ability

Q.1 5 संख्याओं का औसत 48 है। उनमें से दो संख्याओं का औसत 40 है जबकि अन्य दो संख्याओं का औसत 58 है। शेष संख्या का मान ज्ञात कीजिए।

- Ans
- 1. 30
 - 2. 40
 - 3. 34
 - 4. 44

Question Type : MCQ
Question ID : 264330138371
Option 1 ID : 264330542091
Option 2 ID : 264330542093
Option 3 ID : 264330542092
Option 4 ID : 264330542094
Status : Answered
Chosen Option : 4

Q.2 एक विक्रेता ने Rs. 50 में 12 संतरे खरीदे और उसने Rs. 30 में 12 संतरे की दर से उन्हें बेच दिया। हानि प्रतिशत ज्ञात कीजिए।

- Ans
- 1. 30%
 - 2. 40%
 - 3. 45%
 - 4. 25%

Question Type : MCQ
Question ID : 264330138376
Option 1 ID : 264330542111
Option 2 ID : 264330542113
Option 3 ID : 264330542114
Option 4 ID : 264330542112
Status : Answered
Chosen Option : 2

Q.3 दो स्टेशन A और B एक सीधी रेखा पर एक-दूसरे से 230 km की दूरी पर हैं। A से एक रेलगाड़ी सुबह 4 बजे शुरू होकर B की ओर 40 km/hr की चाल से यात्रा करती है। एक दूसरी रेलगाड़ी B से सुबह 5 बजे शुरू होकर A की ओर 55 km/hr की चाल से यात्रा करती है। दोनों रेलगाड़ियाँ किस समय मिलेंगी?

- Ans
- ✓ 1. सुबह 7 बजे
 - ✗ 2. सुबह 10 बजे
 - ✗ 3. सुबह 8 बजे
 - ✗ 4. सुबह 6 बजे

Question Type : MCQ
Question ID : 264330138382
Option 1 ID : 264330542135
Option 2 ID : 264330542136
Option 3 ID : 264330542138
Option 4 ID : 264330542137
Status : Answered
Chosen Option : 1

Q.4 Rs. 500 की धनराशि 2 वर्ष में साधारण ब्याज पर Rs. 580 हो जाती है। समान साधारण ब्याज दर पर कितने वर्षों में Rs. 650 की धनराशि Rs. 858 हो जाएगी?

- Ans
- ✗ 1. 6 वर्ष
 - ✓ 2. 4 वर्ष
 - ✗ 3. 5 वर्ष
 - ✗ 4. 8 वर्ष

Question Type : MCQ
Question ID : 264330137163
Option 1 ID : 264330537298
Option 2 ID : 264330537295
Option 3 ID : 264330537296
Option 4 ID : 264330537297
Status : Answered
Chosen Option : 2

Q.5 $5(12 + 20 \div 10 \times 3 - 5)$ का मान ज्ञात कीजिए।

- Ans
- ✗ 1. 40
 - ✗ 2. 50
 - ✗ 3. 35
 - ✓ 4. 65

Question Type : MCQ
Question ID : 264330138368
Option 1 ID : 264330542082
Option 2 ID : 264330542079
Option 3 ID : 264330542080
Option 4 ID : 264330542081
Status : Answered
Chosen Option : 4

Q.6 रमेश, राहुल से 60 प्रतिशत कम कुशल है। यदि राहुल एक कंप्यूटर को 12 दिनों में बना सकता है, तो रमेश उसी कंप्यूटर को कितने दिनों में बना सकता है?

- Ans
- ✓ 1. 30 दिन
 - ✗ 2. 40 दिन
 - ✗ 3. 50 दिन
 - ✗ 4. 60 दिन

Question Type : MCQ

Question ID : 264330135043

Option 1 ID : 264330529110

Option 2 ID : 264330529109

Option 3 ID : 264330529108

Option 4 ID : 264330529107

Status : Answered

Chosen Option : 1

Q.7 यदि $(x + y)$ का 20 प्रतिशत = $(x - y)$ का 30 प्रतिशत है, तो x, y का कितना प्रतिशत है?

- Ans
- ✗ 1. 0.5 प्रतिशत
 - ✓ 2. 500 प्रतिशत
 - ✗ 3. 50 प्रतिशत
 - ✗ 4. 5 प्रतिशत

Question Type : MCQ

Question ID : 264330137158

Option 1 ID : 264330537278

Option 2 ID : 264330537275

Option 3 ID : 264330537276

Option 4 ID : 264330537277

Status : Answered

Chosen Option : 2

Q.8 $\left(\frac{28}{9} \times \frac{42}{35}\right) \div \left(\frac{3}{25} \times \frac{5}{7} \div \frac{1}{21}\right)$ का मान क्या है?
 $\left(\frac{14}{15} \div \frac{2}{75} \text{ of } \frac{7}{5}\right) \times \frac{1}{75} \div \frac{4}{3}$

- Ans
- ✗ 1. 212/27
 - ✗ 2. 222/27
 - ✗ 3. 244/27
 - ✓ 4. 224/27

Question Type : MCQ

Question ID : 264330137620

Option 1 ID : 264330539090

Option 2 ID : 264330539087

Option 3 ID : 264330539088

Option 4 ID : 264330539089

Status : Answered

Chosen Option : 4

Q.9 एक मिश्रण में रेत और पत्थर का अनुपात 5:8 है जबकि पत्थर और सीमेंट का अनुपात 32:35 है। मिश्रण में रेत और सीमेंट का अनुपात क्या है?

- Ans
- 1. 4:3
 - 2. 1:7
 - 3. 4:7
 - 4. 2:3

Question Type : MCQ

Question ID : 264330138378

Option 1 ID : 264330542120

Option 2 ID : 264330542122

Option 3 ID : 264330542119

Option 4 ID : 264330542121

Status : Answered

Chosen Option : 3

Q.10 14 और 56 का तृतीय समानुपाती ज्ञात कीजिए।

- Ans
- 1. 212
 - 2. 220
 - 3. 224
 - 4. 218

Question Type : MCQ

Question ID : 264330138379

Option 1 ID : 264330542126

Option 2 ID : 264330542124

Option 3 ID : 264330542123

Option 4 ID : 264330542125

Status : Answered

Chosen Option : 3

Q.11 एक कार शुरुआती 140 km की दूरी 10 घंटों में और अगले 260 km की दूरी 15 घंटों में तय करती है। पूरी यात्रा में कार की औसत चाल कितनी है?

- Ans
- 1. 16 km/hr
 - 2. 14 km/hr
 - 3. 15 km/hr
 - 4. 10 km/hr

Question Type : MCQ

Question ID : 264330138395

Option 1 ID : 264330542189

Option 2 ID : 264330542188

Option 3 ID : 264330542187

Option 4 ID : 264330542190

Status : Answered

Chosen Option : 1

Q.12 $15 \div 5$ of $3 - 3 \times 4 + 13$ का मान क्या है?

- Ans
- 1. 0
 - 2. 2
 - 3. 3
 - 4. 10

Question Type : MCQ

Question ID : 264330137148

Option 1 ID : 264330537235

Option 2 ID : 264330537237

Option 3 ID : 264330537238

Option 4 ID : 264330537236

Status : Answered

Chosen Option : 2

Q.13 एक त्रिभुज की ऊँचाई 56 cm है और संगत आधार, ऊँचाई का $\frac{1}{4}$ है। त्रिभुज का क्षेत्रफल ज्ञात कीजिए।

- Ans
- 1. 480 cm^2
 - 2. 440 cm^2
 - 3. 392 cm^2
 - 4. 544 cm^2

Question Type : MCQ

Question ID : 264330138387

Option 1 ID : 264330542158

Option 2 ID : 264330542157

Option 3 ID : 264330542155

Option 4 ID : 264330542156

Status : Answered

Chosen Option : 3

Q.14 नीचे दी गई तालिका में विभिन्न राज्यों में पुरुषों और महिलाओं की संख्या को दर्शाया गया है।

राज्य	पुरुष	महिला
A	50	100
B	200	150
C	300	25
D	25	50
E	125	75
F	150	250

J1 = A और B में पुरुषों की औसत संख्या का मान।

J2 = E और F में महिलाओं की औसत संख्या का मान।

(J2 - J1) का मान क्या है?

- Ans
- 1. 56.5
 - 2. 42.5
 - 3. 37.5
 - 4. 25.5

Question Type : MCQ

Question ID : 264330137621

Option 1 ID : 264330539093

Option 2 ID : 264330539092

Option 3 ID : 264330539094

Option 4 ID : 264330539091

Status : Answered

Chosen Option : 3

Q.15 A, B और C को एक कार्य पूरा करने के लिए दिया जाता है। यदि A, B और C द्वारा लिए गए समय का अनुपात 4:3:6 है, तो उनकी कार्यकुशलता का अनुपात ज्ञात कीजिए।

- Ans
- 1. 3:4:6
 - 2. 4:6:8
 - 3. 3:4:2
 - 4. 4:3:6

Question Type : MCQ

Question ID : 264330138383

Option 1 ID : 264330542141

Option 2 ID : 264330542142

Option 3 ID : 264330542140

Option 4 ID : 264330542139

Status : Answered

Chosen Option : 3

Q.16 एक दुकानदार अंकित मूल्य पर 20% का बट्टा देता है और फिर भी वह कुल मिलाकर 12% का लाभ अर्जित करता है।
जात कीजिए कि उसने अपनी वस्तु को क्रय मूल्य से कितने प्रतिशत अधिक पर अंकित किया था?

- Ans
- 1. 30%
 - 2. 20%
 - 3. 40%
 - 4. 10%

Question Type : MCQ

Question ID : 264330140998

Option 1 ID : 264330552341

Option 2 ID : 264330552339

Option 3 ID : 264330552342

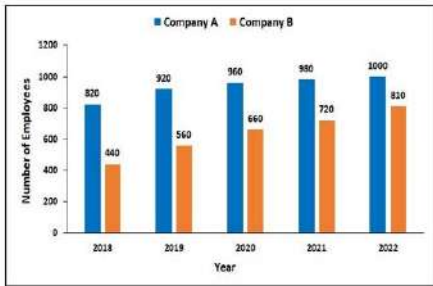
Option 4 ID : 264330552340

Status : Answered

Chosen Option : 3

Q.17 निम्नलिखित दंड आलेख में 5 वर्षों में कंपनी A और कंपनी B में कर्मचारियों की संख्या को दर्शाया गया है।

वर्ष 2018 और 2019 में कंपनी A और कंपनी B में कर्मचारियों की कुल संख्या जात कीजिए।



number of employees - कर्मचारियों की संख्या, Year - वर्ष, company A - कंपनी A , company B - कंपनी B

- Ans
- 1. 2820
 - 2. 3210
 - 3. 2860
 - 4. 2740

Question Type : MCQ

Question ID : 264330138386

Option 1 ID : 264330542154

Option 2 ID : 264330542152

Option 3 ID : 264330542151

Option 4 ID : 264330542153

Status : Answered

Chosen Option : 4

Q.18 150 मीटर × 25 मीटर का एक आयताकार बगीचा है। बगीचे के बाहर चारों ओर 10 मीटर चौड़ा एक पथ बनाया गया है। उस पथ का क्षेत्रफल कितना है?

- Ans**
- ✓ 1. 3900 metre²
 - ✗ 2. 3220 metre²
 - ✗ 3. 3700 metre²
 - ✗ 4. 3550 metre²

Question Type : **MCQ**
Question ID : **264330135058**
Option 1 ID : **264330529167**
Option 2 ID : **264330529170**
Option 3 ID : **264330529168**
Option 4 ID : **264330529169**
Status : **Answered**
Chosen Option : **1**

Q.19 कोई धनराशि साधारण ब्याज पर 14 प्रतिशत वार्षिक दर से कम-से-कम कितने पूर्ण वर्षों में स्वयं की चार गुना से अधिक हो जाएगी?

- Ans**
- ✗ 1. 20 वर्ष
 - ✗ 2. 25 वर्ष
 - ✗ 3. 29 वर्ष
 - ✓ 4. 22 वर्ष

Question Type : **MCQ**
Question ID : **264330137333**
Option 1 ID : **264330537960**
Option 2 ID : **264330537961**
Option 3 ID : **264330537962**
Option 4 ID : **264330537959**
Status : **Answered**
Chosen Option : **4**

Q.20 एक दुकानदार ने Rs. 1400 अंकित मूल्य वाली एक पुस्तक 28% के बड़े पर बेची। पुस्तक का विक्रय मूल्य ज्ञात कीजिए।

- Ans**
- ✗ 1. Rs. 2500
 - ✗ 2. Rs. 2000
 - ✓ 3. Rs. 1008
 - ✗ 4. Rs. 1500

Question Type : **MCQ**
Question ID : **264330138377**
Option 1 ID : **264330542116**
Option 2 ID : **264330542118**
Option 3 ID : **264330542115**
Option 4 ID : **264330542117**
Status : **Answered**
Chosen Option : **3**

Q.1 किन दो चिन्हों को आपस में बदलने पर, समीकरण का मान सही होगा?

$$6 - 10 \times 8 \div 5 + 7 = 15$$

- Ans
- 1. + और ÷
 - 2. ÷ और -
 - 3. × और ÷
 - 4. + और -

Question Type : MCQ

Question ID : 264330138493

Option 1 ID : 264330542581

Option 2 ID : 264330542582

Option 3 ID : 264330542580

Option 4 ID : 264330542579

Status : Answered

Chosen Option : 4

Q.2 (::) के बाईं ओर दिए गए शब्द आपस में किसी तर्क/नियम/संबंध द्वारा संबंधित हैं। समान तर्क/नियम/संबंध के आधार पर दिए गए विकल्पों में से (::) के दाईं ओर लुप्त शब्द/शब्द युग्म को चुनिए।

टैडपोल: मेंढक :: किटन: ?

- Ans
- 1. कीट
 - 2. हिरण
 - 3. कुत्ता
 - 4. बिल्ली

Question Type : MCQ

Question ID : 264330138479

Option 1 ID : 264330542523

Option 2 ID : 264330542525

Option 3 ID : 264330542526

Option 4 ID : 264330542524

Status : Answered

Chosen Option : 4

Q.3 एक निश्चित कूट भाषा में, 'EXPORT' को 'ORTEXP' लिखा जाता है। उस कूट भाषा में 'GENTLE' को कैसे लिखा जाएगा?

- Ans
- 1. TLENEG
 - 2. TLENGE
 - 3. TELNEG
 - 4. TLEGEN

Question Type : MCQ

Question ID : 264330138460

Option 1 ID : 264330542448

Option 2 ID : 264330542450

Option 3 ID : 264330542447

Option 4 ID : 264330542449

Status : Answered

Chosen Option : 4

Q.4 दी गई दो संख्याओं को आपस में बदलने पर क्रमशः समीकरण (I) और (II) का मान क्या होगा?

8 और 2

I. $3 + 6 - 8 \times 4 \div 2$

II. $4 \div 6 \times 9 + 2 - 8$

- Ans
- 1. 12 और 8
 - 2. 9 और 15
 - 3. 9 और 81
 - 4. 8 और 12

Question Type : MCQ

Question ID : 264330137383

Option 1 ID : 264330538161

Option 2 ID : 264330538159

Option 3 ID : 264330538162

Option 4 ID : 264330538160

Status : Answered

Chosen Option : 4

Q.5 पाँच बल्लेबाजों रोहित, राहुल, विराट, सूर्या और हादिक के औसत की तुलना की जाती है। सूर्या का औसत केवल एक बल्लेबाज से अधिक है। विराट का औसत रोहित से अधिक है और रोहित का औसत हादिक से अधिक है। यदि रोहित का औसत = 120 है, तो सूर्या का औसत कितना हो सकता है?

- Ans
- 1. 130
 - 2. 125
 - 3. 118
 - 4. 128

Question Type : MCQ

Question ID : 264330138486

Option 1 ID : 264330542554

Option 2 ID : 264330542552

Option 3 ID : 264330542551

Option 4 ID : 264330542553

Status : Answered

Chosen Option : 3

Q.6 निम्नलिखित प्रश्न में कुछ कथन दिए गए हैं और उन कथनों के आधार पर कुछ निष्कर्ष दिए गए हैं। आपको यह मानना है कि दिए गए कथन सत्य हैं चाहे वे समान्यतः ज्ञात तथ्यों से अलग प्रतीत होते हों। सभी निष्कर्षों को पढ़िए और फिर निश्चय कीजिए कि दिए गए निष्कर्षों में से कौन-सा निष्कर्ष तार्किक रूप से दिए गए कथनों के अनुसार है।

कथन:

I. कुछ V, P हैं।

II. कुछ F, V हैं।

निष्कर्ष:

I. कुछ F, P हैं।

II. कुछ V, F हैं।

Ans 1. दोनों निष्कर्ष I और II कथनों के अनुसार हैं

2. केवल निष्कर्ष I कथनों के अनुसार है

3. केवल निष्कर्ष II कथनों के अनुसार है

4. कोई भी निष्कर्ष कथनों के अनुसार नहीं है

Question Type : **MCQ**

Question ID : **264330138487**

Option 1 ID : **264330542557**

Option 2 ID : **264330542555**

Option 3 ID : **264330542556**

Option 4 ID : **264330542558**

Status : **Answered**

Chosen Option : **3**

Q.7 उस विकल्प आकृति को चुनिए जिसमें दी गई आकृति निहित है। (घूर्णन की अनुमति नहीं है)

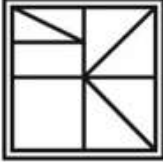


Ans

✗ 1.



✗ 2.



✓ 3.



✗ 4.



Question Type : MCQ

Question ID : 264330137534

Option 1 ID : 264330538746

Option 2 ID : 264330538745

Option 3 ID : 264330538743

Option 4 ID : 264330538744

Status : Answered

Chosen Option : 3

Q.8 निम्नलिखित प्रश्न में, दी गई श्रृंखला में लुप्त संख्या को चुनिए ।

2, 5, 14, 41, 122, ?

Ans

✗ 1. 380

✗ 2. 370

✗ 3. 368

✓ 4. 365

Question Type : MCQ

Question ID : 264330138490

Option 1 ID : 264330542570

Option 2 ID : 264330542568

Option 3 ID : 264330542569

Option 4 ID : 264330542567

Status : Answered

Chosen Option : 4

Q.9 (::) के बाईं ओर दिए गए शब्द आपस में किसी तर्क/नियम/संबंध द्वारा संबंधित हैं। समान तर्क/नियम/संबंध के आधार पर दिए गए विकल्पों में से (::) के दाईं ओर लुप्त शब्द/शब्द युग्म को चुनिए।

समय : सेकंड :: ?

Ans

- ✗ 1. जूल : कार्य
- ✗ 2. न्यूटन : बल
- ✗ 3. दाब : लीटर
- ✓ 4. शक्ति : वाट

Question Type : MCQ

Question ID : 264330138480

Option 1 ID : 264330542529

Option 2 ID : 264330542528

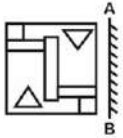
Option 3 ID : 264330542527

Option 4 ID : 264330542530

Status : Answered

Chosen Option : 4

Q.10 यदि एक दर्पण को रेखा AB पर रखा जाए, तो दी गई विकल्प आकृतियों में से कौन-सी आकृति प्रश्न आकृति का सही प्रतिबिम्ब होगी?



Ans

- ✗ 1.
- ✗ 2.
- ✗ 3.
- ✓ 4.

Question Type : MCQ

Question ID : 264330137535

Option 1 ID : 264330538749

Option 2 ID : 264330538748

Option 3 ID : 264330538750

Option 4 ID : 264330538747

Status : Answered

Chosen Option : 4

Q.11 एक निश्चित कूट भाषा में, 'She is my niece' को 'Co Pv Zs Mn' लिखा जाता है, 'That is my bike' को 'Zs Pt Pv Ga' लिखा जाता है, 'She is your daughter' को 'Co Pv Ex Yz' लिखा जाता है। इस कूट भाषा में 'niece' को कैसे लिखा जाएगा?

- Ans
- 1. Co
 - 2. Zs
 - 3. Pv
 - 4. Mn

Question Type : MCQ

Question ID : 264330133566

Option 1 ID : 264330523288

Option 2 ID : 264330523287

Option 3 ID : 264330523289

Option 4 ID : 264330523290

Status : Answered

Chosen Option : 4

Q.12 उस विकल्प को चुनिए जिसमें समुच्चय की संख्याएँ वही संबंध साझा करती हैं जो दिए गए समुच्चय में संख्याओं द्वारा साझा किया जाता है। (ध्यान दें: संख्याओं को उनके घटक अंकों में अलग-अलग किए बिना, पूर्ण संख्याओं पर संक्रियाएँ की जानी चाहिए। उदा. 13 - 13 पर संक्रियाएँ जैसे 13 को जोड़ना /घटाना /गुणा करना आदि किया जा सकता है। 13 को 1 और 3 में अलग-अलग करने की और फिर 1 और 3 पर गणितीय संक्रियाएँ करने की अनुमति नहीं है)

(10, 20, 100)

(50, 5, 125)

- Ans
- 1. (14, 10, 35)
 - 2. (20, 5, 60)
 - 3. (40, 4, 150)
 - 4. (12, 10, 60)

Question Type : MCQ

Question ID : 264330138492

Option 1 ID : 264330542576

Option 2 ID : 264330542577

Option 3 ID : 264330542578

Option 4 ID : 264330542575

Status : Answered

Chosen Option : 4

Q.13 उस विकल्प को चुनिए जो पाँचवीं संख्या से ठीक उसी प्रकार संबंधित है जिस प्रकार दूसरी संख्या पहली संख्या से संबंधित है और चौथी संख्या तीसरी संख्या से संबंधित है।

9 : 730 :: 10 : 1001 :: 8 : ?

- Ans
- 1. 513
 - 2. 514
 - 3. 516
 - 4. 517

Question Type : MCQ

Question ID : 264330137123

Option 1 ID : 264330537135

Option 2 ID : 264330537136

Option 3 ID : 264330537137

Option 4 ID : 264330537138

Status : Answered

Chosen Option : 1

Q.14 एक निश्चित कूट भाषा में, 'JPMNO' को '73562' लिखा जाता है, 'AMNBD' को '28954' लिखा जाता है, 'JNACQ' को '12430' लिखा जाता है। उस कूट भाषा में 'B' को कैसे लिखा जाएगा?

- Ans
- 1. 2
 - 2. 8
 - 3. 4
 - 4. 5

Question Type : MCQ

Question ID : 264330135566

Option 1 ID : 264330531163

Option 2 ID : 264330531164

Option 3 ID : 264330531166

Option 4 ID : 264330531165

Status : Answered

Chosen Option : 4

Q.15 एक श्रृंखला दी गई है जिसमें एक पद लुप्त है। दिए गए विकल्पों में से उस सही विकल्प को चुनिए जो श्रृंखला को पूरा करेगा।

ASBQ, XOYM, UKVI, RGSE, ?

- Ans
- 1. NCPA
 - 2. OBQA
 - 3. OCPB
 - 4. OCPA

Question Type : MCQ

Question ID : 264330138477

Option 1 ID : 264330542518

Option 2 ID : 264330542516

Option 3 ID : 264330542517

Option 4 ID : 264330542515

Status : Answered

Chosen Option : 4

Q.16 सात लड़कियाँ मानसी, श्वेता, मोनिका, पायल, आरती, काजल और लक्ष्मी एक वृत्ताकार मेज के चारों ओर केंद्र के विपरीत दिशा की ओर मुख करके बैठी हैं (परंतु जरूरी नहीं कि वे इसी क्रम में बैठी हों)। आरती, काजल के बाईं ओर से दूसरे स्थान पर है। मोनिका, काजल के दाईं ओर से तीसरे स्थान पर है। मानसी, काजल की निकटतम पड़ोसी नहीं है। लक्ष्मी, मानसी के बाईं ओर से दूसरे स्थान पर है। पायल, लक्ष्मी की निकटतम पड़ोसी नहीं है। लक्ष्मी के बाईं ओर से दूसरे स्थान पर कौन है?

- Ans
- 1. मानसी
 - 2. आरती
 - 3. काजल
 - 4. पायल

Question Type : MCQ

Question ID : 264330138485

Option 1 ID : 264330542550

Option 2 ID : 264330542547

Option 3 ID : 264330542548

Option 4 ID : 264330542549

Status : Answered

Chosen Option : 3

Q.17 निम्नलिखित प्रश्न में, दी गई श्रृंखला में लुप्त संख्या को चुनिए।

111, 128, 145, 162, 179, ?

- Ans
- 1. 195
 - 2. 190
 - 3. 194
 - 4. 196

Question Type : MCQ

Question ID : 264330137121

Option 1 ID : 264330537129

Option 2 ID : 264330537127

Option 3 ID : 264330537128

Option 4 ID : 264330537130

Status : Answered

Chosen Option : 4

Q.18 निम्नलिखित प्रश्न में कुछ कथन दिए गए हैं और उन कथनों के आधार पर कुछ निष्कर्ष दिए गए हैं। आपको यह मानना है कि दिए गए कथन सत्य हैं चाहे वे सामान्यतः ज्ञात तथ्यों से अलग प्रतीत होते हों। सभी निष्कर्षों को पढ़िए और फिर निश्चय कीजिए कि दिए गए निष्कर्षों में से कौन-सा निष्कर्ष तार्किक रूप से दिए गए कथनों के अनुसार है।

कथन:

I. सभी K, M हैं।

II. कुछ K, Z हैं।

निष्कर्ष:

I. सभी M, Z हैं।

II. सभी M, K हैं।

III. कुछ M, K हैं।

- Ans
- 1. कोई भी निष्कर्ष कथनों के अनुसार नहीं है
 - 2. केवल निष्कर्ष III कथनों के अनुसार है
 - 3. सभी निष्कर्ष कथनों के अनुसार हैं
 - 4. दोनों निष्कर्ष I और III कथनों के अनुसार हैं

Question Type : MCQ

Question ID : 264330138488

Option 1 ID : 264330542562

Option 2 ID : 264330542561


Option 3 ID : 264330542560

Option 4 ID : 264330542559

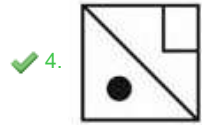
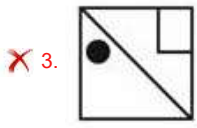
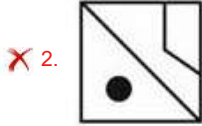
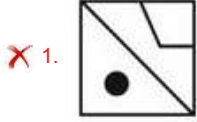
Status : Answered

Chosen Option : 2

Q.19 कौन-सी उत्तर आकृति प्रश्न आकृति में दिए गए पैटर्न को पूरा करेगी?



Ans



Question Type : MCQ

Question ID : 264330138497

Option 1 ID : 264330542598

Option 2 ID : 264330542596

Option 3 ID : 264330542597

Option 4 ID : 264330542595

Status : Answered

Chosen Option : 4

Q.20 सात लड़के लक्ष्मण, मोहन, बिट्टू, सोहिल, राहुल, राम और रमेश एक वृत्ताकार मेज के चारों ओर केंद्र की ओर मुख करके बैठे हैं (परंतु जरूरी नहीं कि वे इसी क्रम में बैठें हों)। सोहिल, बिट्टू के बाईं ओर से तीसरे स्थान पर है। मोहन, बिट्टू के दाईं ओर से दूसरे स्थान पर है। राम, रमेश के दाईं ओर से तीसरे स्थान पर है। रमेश, मोहन का निकटतम पड़ोसी नहीं है। लक्ष्मण, राहुल के बाईं ओर से तीसरे स्थान पर है। राम के ठीक बाईं ओर कौन बैठा है?

Ans

✓ 1. बिट्टू

✗ 2. रमेश

✗ 3. मोहन

✗ 4. लक्ष्मण

Question Type : MCQ

Question ID : 264330138484

Option 1 ID : 264330542543

Option 2 ID : 264330542546

Option 3 ID : 264330542544

Option 4 ID : 264330542545

Status : Answered

Chosen Option : 1

Q.1 भारतीय संविधान के अनुच्छेद 25 से 28 _____ का प्रावधान करते हैं।

- Ans
- 1. शोषण के विरुद्ध अधिकार
 - 2. संस्कृतिक और शैक्षिक अधिकार
 - 3. समानता के अधिकार
 - 4. धार्मिक स्वतंत्रता के अधिकार

Question Type : MCQ
Question ID : 264330138258
Option 1 ID : 264330541640
Option 2 ID : 264330541642
Option 3 ID : 264330541639
Option 4 ID : 264330541641
Status : Answered
Chosen Option : 4

Q.2 निम्नलिखित में से किस ग्रह को "भोर का तारा (morning star)" भी कहा जाता है?

- Ans
- 1. शुक्र
 - 2. पृथ्वी
 - 3. नेपच्यून
 - 4. बृहस्पति

Question Type : MCQ
Question ID : 264330137044
Option 1 ID : 264330536819
Option 2 ID : 264330536820
Option 3 ID : 264330536821
Option 4 ID : 264330536822
Status : Answered
Chosen Option : 4

Q.3 मानक जनगणना परिभाषा के अनुसार, मुख्य श्रमिक वह व्यक्ति है जो एक वर्ष में कम से कम _____ कार्य करता है।

- Ans
- 1. 190 दिन
 - 2. 223 दिन
 - 3. 150 दिन
 - 4. 183 दिन

Question Type : MCQ
Question ID : 264330138668
Option 1 ID : 264330543281
Option 2 ID : 264330543282
Option 3 ID : 264330543279
Option 4 ID : 264330543280
Status : Marked For Review
Chosen Option : 1

Q.4 भारत में वित्तीय वर्ष की अवधि कितनी है?

Ans 1.

प्रत्येक वर्ष 1 जनवरी से प्रारंभ होकर अगले वर्ष 31 दिसंबर तक

2.

प्रत्येक वर्ष 1 अप्रैल से प्रारंभ होकर अगले वर्ष 31 मार्च तक

3.

प्रत्येक वर्ष 1 जनवरी से से प्रारंभ होकर उसी वर्ष 31 दिसंबर तक

4.

प्रत्येक वर्ष 1 अप्रैल से प्रारंभ होकर उसी वर्ष 31 दिसंबर तक

Question Type : MCQ

Question ID : 264330134055

Option 1 ID : 264330525245

Option 2 ID : 264330525243

Option 3 ID : 264330525246

Option 4 ID : 264330525244

Status : Answered

Chosen Option : 2

Q.5 प्रधान मंत्री आवास योजना- शहरी किस केंद्रीय मंत्रालय द्वारा शुरू की गई थी?

Ans 1. आवास और शहरी मामलों के मंत्रालय

2. ग्रामीण विकास मंत्रालय

3. वित्त मंत्रालय

4. मानव संसाधन विकास मंत्रालय

Question Type : MCQ

Question ID : 264330138255

Option 1 ID : 264330541628

Option 2 ID : 264330541629

Option 3 ID : 264330541630

Option 4 ID : 264330541627

Status : Marked For Review

Chosen Option : 4

Q.6 इस जानी-मानी भारतीय संगीत क्षेत्र से जुड़ी शख्सियत को पहचानें।

वर्ष 2011 में, गिनीज बुक ऑफ वर्ल्ड रिकॉर्ड्स (Guinness Book of World Records) ने आधिकारिक तौर पर उन्हें संगीत इतिहास में सबसे अधिक गाने रिकॉर्ड करने वाली कलाकार के रूप में मानित किया था।

Ans 1. अलका याग्निंक

2. उषा उत्थुप

3. आशा भोसले

4. श्रेया घोषाल

Question Type : MCQ

Question ID : 264330138252

Option 1 ID : 264330541618

Option 2 ID : 264330541615

Option 3 ID : 264330541617

Option 4 ID : 264330541616

Status : Not Answered

Chosen Option : --

Q.7 सरोजा वैद्यनाथन (Saroja Vaidyanathan) को _____ में शास्त्रीय नृत्य के लिए कालिदास सम्मान मिला था।

- Ans
- 1. 2002-03
 - 2. 2020-21
 - 3. 2001-02
 - 4. 2009-10

Question Type : MCQ

Question ID : 264330134050

Option 1 ID : 264330525223

Option 2 ID : 264330525225

Option 3 ID : 264330525224

Option 4 ID : 264330525226

Status : Not Answered

Chosen Option : --

Q.8 श्रीजेश पी.आर. जिन्हें "मेजर ध्यानचंद खेल रत्न पुरस्कार 2021" से सम्मानित किया गया था, किस खेल से संबंधित हैं?

- Ans
- 1. हॉकी
 - 2. फुटबॉल
 - 3. कुश्ती
 - 4. मुक्केबाज़ी

Question Type : MCQ

Question ID : 264330138249

Option 1 ID : 264330541605

Option 2 ID : 264330541606

Option 3 ID : 264330541604

Option 4 ID : 264330541603

Status : Answered

Chosen Option : 3

Q.9 बेरीबेरी (Beriberi) निम्नलिखित में से किसकी कमी से होता है?

- Ans
- 1. विटामिन B1
 - 2. आयोडीन
 - 3. विटामिन D
 - 4. विटामिन C

Question Type : MCQ

Question ID : 264330138259

Option 1 ID : 264330541643

Option 2 ID : 264330541646

Option 3 ID : 264330541645

Option 4 ID : 264330541644

Status : Answered

Chosen Option : 1

Q.10 धोलावीरा का प्राचीन शहर, किस राज्य में स्थित है?

- Ans
- 1. राजस्थान
 - 2. कर्नाटक
 - 3. मध्यप्रदेश
 - 4. गुजरात

Question Type : MCQ
Question ID : 264330137389
Option 1 ID : 264330538184
Option 2 ID : 264330538186
Option 3 ID : 264330538183
Option 4 ID : 264330538185
Status : Answered
Chosen Option : 4

Q.11 निम्नलिखित में से किस मुगल शासक ने आलमगीर, विश्व विजेता की उपाधि धारण की थी?

- Ans
- 1. शाहजहाँ
 - 2. औरंगज़ेब
 - 3. बाबर
 - 4. अकबर

Question Type : MCQ
Question ID : 264330137050
Option 1 ID : 264330536844
Option 2 ID : 264330536843
Option 3 ID : 264330536846
Option 4 ID : 264330536845
Status : Answered
Chosen Option : 3

Q.12 निम्नलिखित में से कौन-सा राष्ट्रीय उद्यान महाराष्ट्र में स्थित नहीं है?

- Ans
- 1. नवेगाँव राष्ट्रीय उद्यान
 - 2. गुगामल राष्ट्रीय उद्यान
 - 3. बांधवगढ़ राष्ट्रीय उद्यान
 - 4. ताडोबा राष्ट्रीय उद्यान

Question Type : MCQ
Question ID : 264330137043
Option 1 ID : 264330536818
Option 2 ID : 264330536817
Option 3 ID : 264330536816
Option 4 ID : 264330536815
Status : Answered
Chosen Option : 3

Q.13 भारतीय मसाला बोर्ड (Spices Board of India) का मुख्यालय कहाँ स्थित है?

- Ans
- ✓ 1. कोच्चि (केरल)
 - ✗ 2. बेंगलुरु (कर्नाटक)
 - ✗ 3. गुंटूर (आंध्रप्रदेश)
 - ✗ 4. पुणे (महाराष्ट्र)

Question Type : MCQ

Question ID : 264330134040

Option 1 ID : 264330525185

Option 2 ID : 264330525183

Option 3 ID : 264330525184

Option 4 ID : 264330525186

Status : Answered

Chosen Option : 1

Q.14 1897 में रामकृष्ण मिशन की स्थापना किसने की थी?

- Ans
- ✗ 1. रामकृष्ण परमहंस
 - ✗ 2. केशव चंद्र सेन
 - ✓ 3. स्वामी विवेकानंद
 - ✗ 4. देवेन्द्रनाथ टैगोर

Question Type : MCQ

Question ID : 264330137702

Option 1 ID : 264330539418

Option 2 ID : 264330539417

Option 3 ID : 264330539416

Option 4 ID : 264330539415

Status : Answered

Chosen Option : 4

Q.15 भारत के किसी भी राज्य का प्रमुख एक _____ होता है।

- Ans
- ✗ 1. मुख्यमंत्री
 - ✗ 2. राज्य निर्वाचन आयुक्त
 - ✗ 3. उच्च न्यायालय का मुख्य न्यायाधीश
 - ✓ 4. राज्यपाल

Question Type : MCQ

Question ID : 264330137398

Option 1 ID : 264330538219

Option 2 ID : 264330538222

Option 3 ID : 264330538220

Option 4 ID : 264330538221

Status : Marked For Review

Chosen Option : 4

Q.16 भारत की पार्लियामेंट को _____ भी कहा जाता है।

- Ans
- 1. विधान सभा
 - 2. लोक सभा
 - 3. संसद
 - 4. सैनेट

Question Type : MCQ
Question ID : 264330134630
Option 1 ID : 264330527475
Option 2 ID : 264330527476
Option 3 ID : 264330527477
Option 4 ID : 264330527478
Status : Answered
Chosen Option : 3

Q.17 हिमालय के सबसे उत्तरी भाग में स्थित शृंखला को _____ कहते हैं।

- Ans
- 1. पूर्वांचल
 - 2. अरावली पर्वतमाला
 - 3. आंतरिक हिमालय
 - 4. शिवालिक पर्वतमाला

Question Type : MCQ
Question ID : 264330138264
Option 1 ID : 264330541666
Option 2 ID : 264330541665
Option 3 ID : 264330541663
Option 4 ID : 264330541664
Status : Answered
Chosen Option : 4

Q.18 जगोई और चोलोम _____ नृत्य की दो मुख्य शैलियाँ सौम्य हैं।

- Ans
- 1. कथकली
 - 2. मणिपुरी
 - 3. कथक
 - 4. भरतनाट्यम

Question Type : MCQ
Question ID : 264330138246
Option 1 ID : 264330541594
Option 2 ID : 264330541593
Option 3 ID : 264330541592
Option 4 ID : 264330541591
Status : Answered
Chosen Option : 3

Q.19 निम्नलिखित में से किसने फॉर्मूला 1 यूनाइटेड स्टेट्स ग्रां प्री 2022 जीता है?

- Ans
- 1. चार्ल्स लेक्लर्क (Charles Leclerc)
 - 2. कार्लोस सैंज जूनियर (Carlos Sainz Jr.)
 - 3. मैक्स वेस्टर्पेन (Max Verstappen)
 - 4. लैंडो नॉरिस (Lando Norris)

Question Type : MCQ
Question ID : 264330137059
Option 1 ID : 264330536882
Option 2 ID : 264330536880
Option 3 ID : 264330536881
Option 4 ID : 264330536879
Status : Answered
Chosen Option : 1

Q.20 वर्ष 1817 में "द हिस्ट्री ऑफ ब्रिटिश इंडिया (The History of British India)" को किसने लिखा था?

- Ans
- 1. जेम्स मिल
 - 2. रमेश चंद्र दत्त
 - 3. दादाभाई नौरोजी
 - 4. विलियम बैंटिक

Question Type : MCQ
Question ID : 264330137410
Option 1 ID : 264330538267
Option 2 ID : 264330538268
Option 3 ID : 264330538270
Option 4 ID : 264330538269
Status : Marked For Review
Chosen Option : 3

Q.21 Which among the following alloys is a combination of gold and silver?

- Ans
- 1. Electrum
 - 2. Bronze
 - 3. Solder
 - 4. Constantan

Question Type : MCQ
Question ID : 264330137041
Option 1 ID : 264330536807
Option 2 ID : 264330536808
Option 3 ID : 264330536809
Option 4 ID : 264330536810
Status : Answered
Chosen Option : 4

Q.22 दशहरा उत्सव को _____ के नाम से भी जाना जाता है।

- Ans
- 1. वैकुंठ अष्टमी (Vaikunthashtami)
 - 2. विजयादशमी(Vijaydashami)
 - 3. जन्माष्टमी (Janmashami)
 - 4. संक्रांति (Sankranti)

Question Type : MCQ
Question ID : 264330137689
Option 1 ID : 264330539363
Option 2 ID : 264330539365
Option 3 ID : 264330539366
Option 4 ID : 264330539364
Status : Answered
Chosen Option : 2

Q.23 निम्नलिखित में से कौन "एन ऑटोबायोग्राफी: टुवर्ड फ्रीडम (An Autobiography: Toward Freedom)" पुस्तक के लेखक हैं?

- Ans
- 1. लाला लाजपत राय
 - 2. इंदिरा गांधी
 - 3. महात्मा गांधी
 - 4. जवाहरलाल नेहरू

Question Type : MCQ
Question ID : 264330134048
Option 1 ID : 264330525217
Option 2 ID : 264330525218
Option 3 ID : 264330525216
Option 4 ID : 264330525215
Status : Not Answered
Chosen Option : --

Q.24 निम्नलिखित में से कौन-सी बेरोजगारी किसी अर्थव्यवस्था में मंदी का परिणाम है?

- Ans
- 1. चक्रीय बेरोजगारी
 - 2. संरचनात्मक बेरोजगारी
 - 3. मौसमी बेरोजगारी
 - 4. प्रतिरोधात्मक बेरोजगारी

Question Type : MCQ
Question ID : 264330137699
Option 1 ID : 264330539403
Option 2 ID : 264330539404
Option 3 ID : 264330539406
Option 4 ID : 264330539405
Status : Not Answered
Chosen Option : --

Q.25 सितंबर 2022 में, किसे भारत के नए महान्यायवादी के रूप में नियुक्त किया गया है?

- Ans 1. आर. वैक्टरमणी
 2. जगदीप धनखड़
 3. कैलाश वासदेव
 4. राम जेठमलानी

Question Type : MCQ
Question ID : 264330138254
Option 1 ID : 264330541624
Option 2 ID : 264330541625
Option 3 ID : 264330541626
Option 4 ID : 264330541623
Status : Answered
Chosen Option : 1

Section : English Language and Comprehension

Q.1 In the following question, out of the given four alternatives, select the alternative which best expresses the meaning of the Idiom/Phrase.

In the long run.

- Ans 1. In the end
 2. Lack of energy
 3. Long walk
 4. In tough times

Question Type : MCQ
Question ID : 264330135328
Option 1 ID : 264330530219
Option 2 ID : 264330530220
Option 3 ID : 264330530222
Option 4 ID : 264330530221
Status : Marked For Review
Chosen Option : 3

Q.2 Four words are given, out of which three words are spelt correctly. Choose the incorrectly spelt word.

- Ans 1. LICENSE
 2. NECCESARY
 3. INDISPENSABLE
 4. OCCASION

Question Type : MCQ
Question ID : 264330136635
Option 1 ID : 264330535264
Option 2 ID : 264330535265
Option 3 ID : 264330535263
Option 4 ID : 264330535266
Status : Answered
Chosen Option : 2

Q.3 Select the most appropriate word for the given group of words.

A person who is both open and shy

- Ans
- 1. Introvert
 - 2. Extrovert
 - 3. Ambivert
 - 4. Controvert

Question Type : **MCQ**
Question ID : **264330136628**
Option 1 ID : **264330535236**
Option 2 ID : **264330535235**
Option 3 ID : **264330535237**
Option 4 ID : **264330535238**
Status : **Answered**
Chosen Option : **3**

Q.4 Select the most appropriate antonym of the given word.

Rigid

- Ans
- 1. Satiation
 - 2. Flexible
 - 3. Distaste
 - 4. Superior

Question Type : **MCQ**
Question ID : **264330135811**
Option 1 ID : **264330532115**
Option 2 ID : **264330532118**
Option 3 ID : **264330532116**
Option 4 ID : **264330532117**
Status : **Answered**
Chosen Option : **2**

Q.5 Select the most appropriate synonym to substitute the bracketed word in the given sentence.
No need to read (voluminous) campaign literature, or pore through printed recommendations.

- Ans
- 1. Micro
 - 2. Reverberate
 - 3. Sparkling
 - 4. Commodious

Question Type : **MCQ**
Question ID : **264330136074**
Option 1 ID : **264330533108**
Option 2 ID : **264330533107**
Option 3 ID : **264330533109**
Option 4 ID : **264330533110**
Status : **Not Answered**
Chosen Option : **--**

Q.6 Improve the underlined part of the sentence. Choose 'No improvement' as an answer if the sentence is grammatically correct.

He held the railing as he walked downed the stairs.

- Ans**
- 1. No improvement
 - 2. walked downs
 - 3. walk down
 - 4. walked down

Question Type : **MCQ**
Question ID : **264330136772**
Option 1 ID : **264330535794**
Option 2 ID : **264330535793**
Option 3 ID : **264330535792**
Option 4 ID : **264330535791**
Status : **Answered**
Chosen Option : **4**

Q.7 Select the wrongly spelt word.

- Ans**
- 1. Sully
 - 2. Depravity
 - 3. Morelity
 - 4. Arsenal

Question Type : **MCQ**
Question ID : **264330136054**
Option 1 ID : **264330533034**
Option 2 ID : **264330533032**
Option 3 ID : **264330533031**
Option 4 ID : **264330533033**
Status : **Answered**
Chosen Option : **3**

Q.8 Select the word segment that substitutes (replaces) the bracketed word segment correctly and completes the sentence meaningfully. Select the option 'no correction required' if the sentence is correct as given.

One of the main climbing routes, approaches the summit from the southeast (in the Nepal).

- Ans**
- 1. in Nepal
 - 2. at the Nepal
 - 3. from the Nepal
 - 4. No correction required

Question Type : **MCQ**
Question ID : **264330136644**
Option 1 ID : **264330535301**
Option 2 ID : **264330535299**
Option 3 ID : **264330535300**
Option 4 ID : **264330535302**
Status : **Answered**
Chosen Option : **1**

Q.9 Find the part of the given sentence that has an error in it. If there is no error, choose 'No error'.

I hope that we will arrive at the ideal trade-off soon.

- Ans**
- 1. the ideal trade-off soon.
 - 2. we will arrive at
 - 3. I hope that
 - 4. No error

Question Type : **MCQ**

Question ID : **264330136769**

Option 1 ID : **264330535781**

Option 2 ID : **264330535780**

Option 3 ID : **264330535779**

Option 4 ID : **264330535782**

Status : **Answered**

Chosen Option : **2**

Q.10 The statement below has been given with bracketed text. Select the option with correct Idiom for the bracketed text.

Susie (has such strong resemblance to) Kate Winslet that sometimes people would ask her for her autograph.

- Ans**
- 1. gone bananas
 - 2. jack of all trades
 - 3. dead ringer
 - 4. pound the pavement

Question Type : **MCQ**

Question ID : **264330136634**

Option 1 ID : **264330535259**

Option 2 ID : **264330535261**

Option 3 ID : **264330535262**

Option 4 ID : **264330535260**

Status : **Answered**

Chosen Option : **2**

Q.11 Select the most appropriate option to fill in the blank.

The man who is supposed to be protecting them is somehow their fiercest and most _____ enemy.

- Ans**
- 1. quotidian
 - 2. implacable
 - 3. pedestrian
 - 4. ostentatious

Question Type : **MCQ**

Question ID : **264330136055**

Option 1 ID : **264330533037**

Option 2 ID : **264330533038**

Option 3 ID : **264330533036**

Option 4 ID : **264330533035**

Status : **Answered**

Chosen Option : **3**

Q.12 Select the most appropriate option to fill in the blank.

Before about 1830, _____ sermons, tracts and addresses routinely broached female intemperance.

- Ans**
- 1. temperance
 - 2. congruence
 - 3. confluence
 - 4. affluence

Question Type : **MCQ**
Question ID : **264330136064**
Option 1 ID : **264330533072**
Option 2 ID : **264330533074**
Option 3 ID : **264330533071**
Option 4 ID : **264330533073**
Status : **Answered**
Chosen Option : **1**

Q.13 Find the part of the given sentence that has an error in it. If there is no error, choose 'No error'.

He had to rebel against his father to became a musician.

- Ans**
- 1. against his father to
 - 2. No error
 - 3. became a musician.
 - 4. He had to rebel

Question Type : **MCQ**
Question ID : **264330134720**
Option 1 ID : **264330527836**
Option 2 ID : **264330527838**
Option 3 ID : **264330527837**
Option 4 ID : **264330527835**
Status : **Marked For Review**
Chosen Option : **4**

Q.14 Improve the underlined part of the sentence. Choose 'No improvement' as an answer if the sentence is grammatically correct.

He enlisting in the army and went to war when he was only eighteen.

- Ans**
- 1. No improvement
 - 2. enlist in army
 - 3. enlisted in the army
 - 4. enlisted at the army

Question Type : **MCQ**
Question ID : **264330135182**
Option 1 ID : **264330529662**
Option 2 ID : **264330529660**
Option 3 ID : **264330529661**
Option 4 ID : **264330529659**
Status : **Answered**
Chosen Option : **3**

Q.15 Select the most appropriate synonym of the given word.

Fetish

- Ans
- ✓ 1. Desire
 - ✗ 2. Requirement
 - ✗ 3. Awkward
 - ✗ 4. Learning

Question Type : MCQ
Question ID : 264330136629
Option 1 ID : 264330535240
Option 2 ID : 264330535241
Option 3 ID : 264330535242
Option 4 ID : 264330535239
Status : Answered
Chosen Option : 3

Q.16 Identify the segment that contains a grammatical error. If there is no error, select 'No error'.

Before Jerry could stop him, Daniel / bounding off the bed, seized Jerry's / desk lamp, and started beating himself.

- Ans
- ✗ 1. No error
 - ✓ 2. bounding off the bed, seized Jerry's
 - ✗ 3. desk lamp, and started beating himself.
 - ✗ 4. Before Jerry could stop him, Daniel

Question Type : MCQ
Question ID : 264330136615
Option 1 ID : 264330535190
Option 2 ID : 264330535188
Option 3 ID : 264330535189
Option 4 ID : 264330535187
Status : Answered
Chosen Option : 2

Q.17 Choose the word that can substitute the given group of words.

A portable case for holding papers, drawing etc.

- Ans
- ✗ 1. Cache
 - ✗ 2. Archives
 - ✗ 3. Creche
 - ✓ 4. Portfolio

Question Type : MCQ
Question ID : 264330135322
Option 1 ID : 264330530195
Option 2 ID : 264330530197
Option 3 ID : 264330530196
Option 4 ID : 264330530198
Status : Answered
Chosen Option : 4

Q.18 Select the word from the options which is exactly opposite in meaning to the bracketed word given in the sentence below.

The company has responded (sluggishly) to these changes in technology.

- Ans**
- 1. Similarly
 - 2. Apathetically
 - 3. Promptly
 - 4. Lethargically

Question Type : **MCQ**
Question ID : **264330136632**
Option 1 ID : **264330535254**
Option 2 ID : **264330535252**
Option 3 ID : **264330535251**
Option 4 ID : **264330535253**
Status : **Marked For Review**
Chosen Option : **2**

Q.19 Fill in the blank with the most appropriate option.

Societies need to develop highly _____ behavioural rules for survival.

- Ans**
- 1. matched
 - 2. adopted
 - 3. readjusted
 - 4. adaptive

Question Type : **MCQ**
Question ID : **264330136638**
Option 1 ID : **264330535278**
Option 2 ID : **264330535277**
Option 3 ID : **264330535275**
Option 4 ID : **264330535276**
Status : **Answered**
Chosen Option : **4**

Q.20 Fill in the blank with the most appropriate option.

At first, it looked as _____ Uncle Vernon would manage to gloss the whole thing over.

- Ans**
- 1. thought
 - 2. through
 - 3. though
 - 4. throughout

Question Type : **MCQ**
Question ID : **264330136619**
Option 1 ID : **264330535206**
Option 2 ID : **264330535203**
Option 3 ID : **264330535205**
Option 4 ID : **264330535204**
Status : **Answered**
Chosen Option : **4**

Comprehension:

In the following passage some words have been deleted. Fill in the blanks with the help of the alternatives given. Select the most appropriate option for each number.

If you enjoy (1) _____ crime shows on TV, you know that fingerprints play a large role in (2) _____ people. But, you might be (3) _____ to find out that using fingerprints for identification is not a new science. In fact, it is very old (4) _____ back at least as far as 1885-1913 B.C.E. In Babylon, when people agreed to a business contract, they pressed their fingerprints into the clay in which the contract was written. (5) _____ have also been found on clay seals from ancient China.

SubQuestion No : 21

Q.21 Select the most appropriate option to fill in the blank No. 1.

- Ans**
- 1. watching
 - 2. calling out
 - 3. marking
 - 4. writing

Question Type : **MCQ**
Question ID : **264330135802**
Option 1 ID : **264330532081**
Option 2 ID : **264330532079**
Option 3 ID : **264330532082**
Option 4 ID : **264330532080**
Status : **Answered**
Chosen Option : **1**

Comprehension:

In the following passage some words have been deleted. Fill in the blanks with the help of the alternatives given. Select the most appropriate option for each number.

If you enjoy (1) _____ crime shows on TV, you know that fingerprints play a large role in (2) _____ people. But, you might be (3) _____ to find out that using fingerprints for identification is not a new science. In fact, it is very old (4) _____ back at least as far as 1885-1913 B.C.E. In Babylon, when people agreed to a business contract, they pressed their fingerprints into the clay in which the contract was written. (5) _____ have also been found on clay seals from ancient China.

SubQuestion No : 22

Q.22 Select the most appropriate option to fill in the blank No. 2.

- Ans**
- 1. masking
 - 2. pertaining
 - 3. chortling
 - 4. identifying

Question Type : **MCQ**
Question ID : **264330135803**
Option 1 ID : **264330532084**
Option 2 ID : **264330532086**
Option 3 ID : **264330532085**
Option 4 ID : **264330532083**
Status : **Answered**
Chosen Option : **4**

Comprehension:

In the following passage some words have been deleted. Fill in the blanks with the help of the alternatives given. Select the most appropriate option for each number.

If you enjoy (1) _____ crime shows on TV, you know that fingerprints play a large role in (2) _____ people. But, you might be (3) _____ to find out that using fingerprints for identification is not a new science. In fact, it is very old (4) _____ back at least as far as 1885-1913 B.C.E. In Babylon, when people agreed to a business contract, they pressed their fingerprints into the clay in which the contract was written. (5) _____ have also been found on clay seals from ancient China.

SubQuestion No : 23

Q.23 Select the most appropriate option to fill in the blank No. 3.

- Ans
- 1. certain
 - 2. blocked
 - 3. calculable
 - 4. surprised

Question Type : **MCQ**

Question ID : **264330135804**

Option 1 ID : **264330532088**

Option 2 ID : **264330532089**

Option 3 ID : **264330532087**

Option 4 ID : **264330532090**

Status : **Answered**

Chosen Option : **4**

Comprehension:

In the following passage some words have been deleted. Fill in the blanks with the help of the alternatives given. Select the most appropriate option for each number.

If you enjoy (1) _____ crime shows on TV, you know that fingerprints play a large role in (2) _____ people. But, you might be (3) _____ to find out that using fingerprints for identification is not a new science. In fact, it is very old (4) _____ back at least as far as 1885-1913 B.C.E. In Babylon, when people agreed to a business contract, they pressed their fingerprints into the clay in which the contract was written. (5) _____ have also been found on clay seals from ancient China.

SubQuestion No : 24

Q.24 Select the most appropriate option to fill in the blank No. 4.

- Ans
- 1. going
 - 2. dating
 - 3. portraying
 - 4. stating

Question Type : **MCQ**

Question ID : **264330135805**

Option 1 ID : **264330532091**

Option 2 ID : **264330532092**

Option 3 ID : **264330532094**

Option 4 ID : **264330532093**

Status : **Answered**

Chosen Option : **1**

Comprehension:

In the following passage some words have been deleted. Fill in the blanks with the help of the alternatives given. Select the most appropriate option for each number.

If you enjoy (1) _____ crime shows on TV, you know that fingerprints play a large role in (2) _____ people. But, you might be (3) _____ to find out that using fingerprints for identification is not a new science. In fact, it is very old (4) _____ back at least as far as 1885-1913 B.C.E. In Babylon, when people agreed to a business contract, they pressed their fingerprints into the clay in which the contract was written. (5) _____ have also been found on clay seals from ancient China.

SubQuestion No : 25**Q.25** Select the most appropriate option to fill in the blank No. 5.

- Ans**
- 1. Thumbprints
 - 2. Sculptures
 - 3. Footprints
 - 4. Paintings

Question Type : MCQ**Question ID : 264330135806****Option 1 ID : 264330532095****Option 2 ID : 264330532097****Option 3 ID : 264330532096****Option 4 ID : 264330532098****Status : Answered****Chosen Option : 1**

Multi Tasking Non Technical Staff and Havaladar CBIC and CBN Examination 2022

Roll Number	KD Job Updates
Candidate Name	KD Job Updates
Venue Name	New Age Technologies
Exam Date	12/05/2023
Exam Time	9:00 AM - 10:30 AM
Subject	MTS Non Tech Havaladar CBIC and CBN Examination 2022

Section : Numerical and Mathematical Ability

Q.1 नीचे दी गई तालिका में 5 बल्लेबाजों द्वारा बनाए गए रनों की संख्या और खेले गई गेंदों की संख्या को दर्शाया गया है।

बल्लेबाज	बनाए गए रनों की संख्या	खेले गई गेंदों की संख्या
J	80	35
K	90	70
L	100	60
M	120	170
N	50	50

$$\text{Strikerate} = \frac{\text{Number of runs scored}}{\text{Number of balls played}} \times 100$$

स्ट्राइक रेट (Strike rate) = बनाए गए रनों की संख्या (Number of runs scored)/ खेले गई गेंदों की संख्या (Number of balls played) x 100

J का स्ट्राइक रेट, N के स्ट्राइक रेट का कितना प्रतिशत है?

- Ans
- 1. 196.44 प्रतिशत
 - 2. 182.36 प्रतिशत
 - 3. 228.57 प्रतिशत
 - 4. 242.24 प्रतिशत

Question Type : MCQ

Question ID : 264330137194

Option 1 ID : 264330537422

Option 2 ID : 264330537421

Option 3 ID : 264330537420

Option 4 ID : 264330537419

Status : Answered

Chosen Option : 3

Q.2 Rs.450 की राशि पर 3.5% वार्षिक साधारण ब्याज दर पर Rs.47.25 का ब्याज प्राप्त करने में कितना समय लगेगा?

- Ans
- 1. 4 वर्ष
 - 2. 1 वर्ष
 - 3. 3 वर्ष
 - 4. 2 वर्ष

Question Type : MCQ

Question ID : 264330133637

Option 1 ID : 264330523571

Option 2 ID : 264330523574

Option 3 ID : 264330523572

Option 4 ID : 264330523573

Status : Answered

Chosen Option : 3

Q.3 $25 \times 7 \div 175 - 196 \div 14 \times 2 + 625 \div 25 \times 3$ का मान क्या है?

- Ans
- 1. 58
 - 2. 28
 - 3. 38
 - 4. 48

Question Type : MCQ

Question ID : 264330137170

Option 1 ID : 264330537323

Option 2 ID : 264330537326

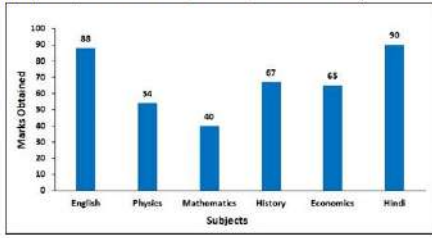
Option 3 ID : 264330537324

Option 4 ID : 264330537325

Status : Answered

Chosen Option : 4

Q.4 निम्न दंड आलेख में विभिन्न विषयों में एक छात्र द्वारा कुल 100 अंकों में से प्राप्त अंकों को दर्शाया गया है। भौतिकी (physics) में प्राप्त अंक, गणित (mathematics) में प्राप्त अंकों से कितने प्रतिशत अधिक हैं?



Subject - विषय, Marks Obtained - प्राप्त अंक, English - अंग्रेजी, Physics - भौतिकी, Mathematics - गणित, History - इतिहास, Economics - अर्थशास्त्र, Hindi - हिंदी

- Ans
- ✓ 1. 35%
 - ✗ 2. 33%
 - ✗ 3. 28%
 - ✗ 4. 44%

Question Type : MCQ

Question ID : 264330138430

Option 1 ID : 264330542328

Option 2 ID : 264330542329

Option 3 ID : 264330542330

Option 4 ID : 264330542327

Status : Answered

Chosen Option : 1

Q.5 टीना किसी काम को 15 दिनों में कर सकती है और मान्या उसी काम को 18 दिनों में कर सकती है। यदि वे दोनों साथ मिलकर 6 दिनों तक काम करती हैं, तो काम का कितना भाग शेष रह जाएगा?

- Ans
- ✓ 1. 4/15
 - ✗ 2. 11/30
 - ✗ 3. 11/15
 - ✗ 4. 8/15

Question Type : MCQ

Question ID : 264330133595

Option 1 ID : 264330523405

Option 2 ID : 264330523404

Option 3 ID : 264330523403

Option 4 ID : 264330523406

Status : Answered

Chosen Option : 1

Q.6 एक दुकानदार एक थोक व्यापारी से Rs. 20 में 40 पेंसिल खरीदता है। वह उन पेंसिलों को 20 Rs. में 20 पेंसिल की दर से बेच देता है। उसका लाभ या हानि प्रतिशत क्या था?

- Ans
- 1. 20% हानि
 - 2. 50% लाभ
 - 3. 80% हानि
 - 4. 100% लाभ

Question Type : MCQ
Question ID : 264330141008
Option 1 ID : 264330552379
Option 2 ID : 264330552380
Option 3 ID : 264330552381
Option 4 ID : 264330552382
Status : Answered
Chosen Option : 2

Q.7 एक राशि पर 15 प्रतिशत वार्षिक दर से तीन माह का साधारण ब्याज Rs. 600 है। वह राशि क्या है?

- Ans
- 1. Rs. 16000
 - 2. Rs. 4000
 - 3. Rs. 32000
 - 4. Rs. 1600

Question Type : MCQ
Question ID : 264330138025
Option 1 ID : 264330540709
Option 2 ID : 264330540708
Option 3 ID : 264330540710
Option 4 ID : 264330540707
Status : Answered
Chosen Option : 1

Q.8 एक लड़की A से B तक 60 km/hr की चाल से जाती है और B से A तक 30 km/hr की चाल से वापस आती है। यदि पूरी यात्रा में 5 घंटे लगे हैं, तो A और B के बीच की दूरी कितनी है?

- Ans
- 1. 90 km
 - 2. 50 km
 - 3. 200 km
 - 4. 100 km

Question Type : MCQ
Question ID : 264330138351
Option 1 ID : 264330542014
Option 2 ID : 264330542013
Option 3 ID : 264330542011
Option 4 ID : 264330542012
Status : Answered
Chosen Option : 3

Q.9 एक व्यक्ति ने 28 वस्तुएँ Rs. 2800 में बेचीं और उसे 20% की हानि हुई। 10% लाभ अर्जित करने के लिए उसे Rs. 4400 में कितनी वस्तुएँ बेचनी चाहिए?

- Ans
- ✓ 1. 32
 - ✗ 2. 40
 - ✗ 3. 16
 - ✗ 4. 24

Question Type : MCQ

Question ID : 264330138421

Option 1 ID : 264330542292

Option 2 ID : 264330542293

Option 3 ID : 264330542291

Option 4 ID : 264330542294

Status : Answered

Chosen Option : 1

Q.10 15 पुस्तकों को Rs. 2200 में बेचा गया जिससे 5 पुस्तकों का क्रय मूल्य प्राप्त हुआ। एक पुस्तक का क्रय मूल्य ज्ञात कीजिए।

- Ans
- ✗ 1. Rs. 200
 - ✗ 2. Rs. 210
 - ✗ 3. Rs. 230
 - ✓ 4. Rs. 110

Question Type : MCQ

Question ID : 264330138420

Option 1 ID : 264330542289

Option 2 ID : 264330542288

Option 3 ID : 264330542290

Option 4 ID : 264330542287

Status : Answered

Chosen Option : 3

Q.11 यदि एक गोले की त्रिज्या एक अर्धगोले की त्रिज्या का $\frac{3}{4}$ है, तो गोले और अर्धगोले के आयतनों का अनुपात क्या होगा?

- Ans
- ✗ 1. 9 : 16
 - ✓ 2. 27 : 32
 - ✗ 3. 51 : 64
 - ✗ 4. 18 : 64

Question Type : MCQ

Question ID : 264330137336

Option 1 ID : 264330537973

Option 2 ID : 264330537971

Option 3 ID : 264330537974

Option 4 ID : 264330537972

Status : Answered

Chosen Option : 2

Q.12 $24 + [33 + 40 \text{ of } \{3 \times (5 - 44 + 50)\}]$ का मान ज्ञात कीजिए।

- Ans
- 1. 1250
 - 2. 1442
 - 3. 1331
 - 4. 1377

Question Type : MCQ
Question ID : 264330138412
Option 1 ID : 264330542255
Option 2 ID : 264330542257
Option 3 ID : 264330542258
Option 4 ID : 264330542256
Status : Answered
Chosen Option : 4

Q.13 एक आयताकार टंकी के आधार का क्षेत्रफल 720 m^2 है और इसमें भरे पानी का आयतन 28800 m^3 है। टंकी में पानी की गहराई कितनी है?

- Ans
- 1. 50 m
 - 2. 30 m
 - 3. 60 m
 - 4. 40 m

Question Type : MCQ
Question ID : 264330133600
Option 1 ID : 264330523425
Option 2 ID : 264330523423
Option 3 ID : 264330523426
Option 4 ID : 264330523424
Status : Answered
Chosen Option : 4

Q.14 एक संख्या को 5:7 के अनुपात में विभाजित किया गया है। प्रत्येक संख्या में 6 जोड़ने पर अनुपात 7:9 हो जाता है। बड़ी संख्या ज्ञात कीजिए।

- Ans
- 1. 21
 - 2. 18
 - 3. 12
 - 4. 15

Question Type : MCQ
Question ID : 264330138422
Option 1 ID : 264330542296
Option 2 ID : 264330542297
Option 3 ID : 264330542298
Option 4 ID : 264330542295
Status : Answered
Chosen Option : 1

Q.15 एक लड़का स्थिर जल में 40 km/hr की चाल से तैर सकता है। यदि धारा की चाल 15 km/hr होती, तो उस लड़के को धारा के प्रतिकूल 25 km तैरने में कितना समय लगेगा।

- Ans
- 1. 2.5 घंटे
 - 2. 2 घंटे
 - 3. 3 घंटे
 - 4. 1 घंटा

Question Type : MCQ

Question ID : 264330138426

Option 1 ID : 264330542313

Option 2 ID : 264330542312

Option 3 ID : 264330542314

Option 4 ID : 264330542311

Status : Answered

Chosen Option : 4

Q.16 $\frac{(45 \times 3 \div 27 \times 4)(81 \div 5 \times 85 \div 51)}{(108 \div 18 \times 7 \div 21)(133 \times 3 \div 38 \times 4)}$ का मान क्या है?

- Ans
- 1. 39/7
 - 2. 45/7
 - 3. 54/7
 - 4. 46/7

Question Type : MCQ

Question ID : 264330137193

Option 1 ID : 264330537417

Option 2 ID : 264330537416

Option 3 ID : 264330537415

Option 4 ID : 264330537418

Status : Answered

Chosen Option : 2

Q.17 यदि x का 40 प्रतिशत = 20 का 25 प्रतिशत है, तो x का मान क्या है?

- Ans
- 1. 12.5
 - 2. 22.5
 - 3. 20
 - 4. 17.5

Question Type : MCQ

Question ID : 264330138020

Option 1 ID : 264330540687

Option 2 ID : 264330540689

Option 3 ID : 264330540690

Option 4 ID : 264330540688

Status : Answered

Chosen Option : 1

Q.18 कुछ बढ़इयों (carpenters) ने एक कार्य को 20 दिनों में पूरा करने का वादा किया। जब कार्य शुरू हुआ, तो उनमें से 8 बढ़ई अनुपस्थित थे और शेष बढ़इयों ने 40 दिनों में कार्य को पूरा किया। बढ़इयों की मूल संख्या कितनी थी?

- Ans
- 1. 10
 - 2. 12
 - 3. 16
 - 4. 18

Question Type : MCQ

Question ID : 264330137321

Option 1 ID : 264330537912

Option 2 ID : 264330537913

Option 3 ID : 264330537911

Option 4 ID : 264330537914

Status : Answered

Chosen Option : 3

Q.19 यदि 10 और x का तृतीय समानुपाती 90 है और 12 और y का तृतीय समानुपाती 27 है, तो $(x + y)$ का मान ज्ञात कीजिए।

- Ans
- 1. 50
 - 2. 44
 - 3. 48
 - 4. 56

Question Type : MCQ

Question ID : 264330138423

Option 1 ID : 264330542302

Option 2 ID : 264330542300

Option 3 ID : 264330542299

Option 4 ID : 264330542301

Status : Answered

Chosen Option : 3

Q.20 70 छात्रों की एक कक्षा में, 70% लड़कियाँ हैं और शेष लड़के हैं। यदि लड़कियों के अंकों का औसत 30 और लड़कों के अंकों का औसत 40 है, तो पूरी कक्षा के औसत अंक कितने हैं?

- Ans
- 1. 38
 - 2. 35
 - 3. 30
 - 4. 33

Question Type : MCQ

Question ID : 264330138415

Option 1 ID : 264330542270

Option 2 ID : 264330542269

Option 3 ID : 264330542267

Option 4 ID : 264330542268

Status : Answered

Chosen Option : 4

Q.1 एक निश्चित कूट भाषा में, 'EDITOR' को 'CBGQLO' लिखा जाता है। उस कूट भाषा में 'FOLDER' को कैसे लिखा जाएगा?

- Ans
- 1. DMJABR
 - 2. BMJBCR
 - 3. DMJACO
 - 4. DMJABO

Question Type : MCQ

Question ID : 264330138544

Option 1 ID : 264330542784

Option 2 ID : 264330542786

Option 3 ID : 264330542783

Option 4 ID : 264330542785

Status : Answered

Chosen Option : 3

Q.2 आठ सहेलियाँ मानसी, श्वेता, मोनिका, पायल, आरती, काजल, लक्ष्मी और रानी एक वृत्ताकार मेज के चारों ओर केंद्र की ओर मुख करके बैठी हैं (परंतु जरूरी नहीं कि वे इसी क्रम में बैठी हों)। मानसी, मोनिका के बाईं ओर से तीसरे स्थान पर है। आरती, मोनिका के दाईं ओर से दूसरे स्थान पर है। श्वेता, पायल के बाईं ओर से चौथे स्थान पर है। पायल, मानसी के बाईं ओर से दूसरे स्थान पर है। रानी, काजल के दाईं ओर से तीसरे स्थान पर है। काजल, मानसी की निकटतम पड़ोसी नहीं है। काजल के दाईं ओर से दूसरे स्थान पर कौन है?

- Ans
- 1. रानी
 - 2. लक्ष्मी
 - 3. पायल
 - 4. आरती

Question Type : MCQ

Question ID : 264330138527

Option 1 ID : 264330542717

Option 2 ID : 264330542715

Option 3 ID : 264330542718

Option 4 ID : 264330542716

Status : Answered

Chosen Option : 3

Q.3 छः लड़कियाँ मानसी, श्वेता, मोनिका, पायल, आरती और काजल एक वृत्ताकार मेज के चारों ओर केंद्र की ओर मुख करके बैठी हैं (परंतु जरूरी नहीं कि वे इसी क्रम में बैठी हों)। काजल, मानसी के ठीक बाईं ओर है। श्वेता, मानसी के बाईं ओर से तीसरे स्थान पर है। पायल, काजल के दाईं ओर से दूसरे स्थान पर है। मोनिका, मानसी के बाईं ओर से दूसरे स्थान पर नहीं है। मानसी के दाईं ओर से दूसरे स्थान पर कौन है?

- Ans
- 1. काजल
 - 2. पायल
 - 3. श्वेता
 - 4. मोनिका

Question Type : MCQ

Question ID : 264330138526

Option 1 ID : 264330542714

Option 2 ID : 264330542713

Option 3 ID : 264330542711

Option 4 ID : 264330542712

Status : Answered

Chosen Option : 4

Q.4 निम्नलिखित प्रश्न में कुछ कथन दिए गए हैं और उन कथनों के आधार पर कुछ निष्कर्ष दिए गए हैं। आपको यह मानना है कि दिए गए कथन सत्य हैं चाहे वे समान्यतः ज्ञात तथ्यों से अलग प्रतीत होते हों। सभी निष्कर्षों को पढ़िए और फिर निश्चय कीजिए कि दिए गए निष्कर्षों में से कौन-सा निष्कर्ष तार्किक रूप से दिए गए कथनों के अनुसार है।

कथन:

I. कुछ खिलौने, छोटे हैं।

II कुछ लंबे, खिलौने हैं।

निष्कर्ष:

I. कुछ छोटे, खिलौने हैं।

II सभी छोटे, लंबे हैं।

Ans

- ✓ 1. केवल निष्कर्ष I कथनों के अनुसार है
- ✗ 2. केवल निष्कर्ष II कथनों के अनुसार है
- ✗ 3. कोई भी निष्कर्ष कथनों के अनुसार नहीं है
- ✗ 4. दोनों निष्कर्ष I और II कथनों के अनुसार हैं

Question Type : MCQ

Question ID : 264330138529

Option 1 ID : 264330542723

Option 2 ID : 264330542724

Option 3 ID : 264330542726

Option 4 ID : 264330542725

Status : Answered

Chosen Option : 1

Q.5 उस विकल्प को चुनिए जो तीसरी संख्या से ठीक उसी तरह संबंधित है जिस तरह दूसरी संख्या पहली संख्या से संबंधित है।

20 : 30 :: 100 : ?

Ans

- ✓ 1. 150
- ✗ 2. 1480
- ✗ 3. 210
- ✗ 4. 140

Question Type : MCQ

Question ID : 264330137823

Option 1 ID : 264330539902

Option 2 ID : 264330539901

Option 3 ID : 264330539900

Option 4 ID : 264330539899

Status : Answered

Chosen Option : 1

Q.6 उस विकल्प को चुनिए जो पाँचवें पद से ठीक उसी प्रकार संबंधित है जिस प्रकार दूसरा पद पहले पद से संबंधित है और चौथा पद तीसरे पद से संबंधित है।

AR9 : DN81 :: PS4 : SO16 :: MT9 : ?

- Ans
- ✓ 1. PP81
 - ✗ 2. PQ81
 - ✗ 3. PP729
 - ✗ 4. PR729

Question Type : MCQ
Question ID : 264330138521
Option 1 ID : 264330542691
Option 2 ID : 264330542692
Option 3 ID : 264330542694
Option 4 ID : 264330542693
Status : Answered
Chosen Option : 1

Q.7 उस विकल्प को चुनिए जिसमें समुच्चय की संख्याएँ वही संबंध साझा करती हैं जो दिए गए समुच्चय में संख्याओं द्वारा साझा किया जाता है। (ध्यान दें: संख्याओं को उनके घटक अंकों में अलग-अलग किए बिना, पूर्ण संख्याओं पर सक्रियाएँ की जानी चाहिए। उदा. 13 - 13 पर सक्रियाएँ जैसे 13 को जोड़ना /घटाना /गुणा करना आदि किया जा सकता है। 13 को 1 और 3 में अलग-अलग करने की और फिर 1 और 3 पर गणितीय सक्रियाएँ करने की अनुमति नहीं है)

(10, 50, 250)

(20, 100, 500)

- Ans
- ✗ 1. (10, 50, 200)
 - ✓ 2. (8, 40, 200)
 - ✗ 3. (20, 80, 500)
 - ✗ 4. (14, 70, 300)

Question Type : MCQ
Question ID : 264330138534
Option 1 ID : 264330542744
Option 2 ID : 264330542743
Option 3 ID : 264330542746
Option 4 ID : 264330542745
Status : Answered
Chosen Option : 2

Q.8 किन दो चिन्हों को आपस में बदलने पर, निम्न समीकरण सही होगा?

$$21 - 7 \times 4 \div 10 + 2 = 4$$

- Ans
- ✗ 1. + और -
 - ✓ 2. - और ÷
 - ✗ 3. - और ×
 - ✗ 4. × और ÷

Question Type : MCQ
Question ID : 264330138535
Option 1 ID : 264330542747
Option 2 ID : 264330542749
Option 3 ID : 264330542748
Option 4 ID : 264330542750
Status : Answered
Chosen Option : 2

Q.9 निम्नलिखित प्रश्न में, दी गई श्रृंखला में लुप्त संख्या चुनिए।

17, 19, 23, 29, 31,?

- Ans
- 1. 30
 - 2. 40
 - 3. 47
 - 4. 37

Question Type : MCQ

Question ID : 264330138532

Option 1 ID : 264330542735

Option 2 ID : 264330542737

Option 3 ID : 264330542738

Option 4 ID : 264330542736

Status : Answered

Chosen Option : 4

Q.10 (::) के बाईं ओर दिए गए शब्द आपस में किसी तर्क/नियम/संबंध द्वारा संबंधित हैं। समान तर्क/नियम/संबंध के आधार पर दिए गए विकल्पों में से (::) के दाईं ओर लुप्त शब्द/शब्द युग्म को चुनिए।

ठेला (Cart) : पहिया ::?

- Ans
- 1. घर : कमरा
 - 2. विद्यार्थी : कक्षा
 - 3. पेडल : साइकिल
 - 4. अध्याय : पुस्तक

Question Type : MCQ

Question ID : 264330138522

Option 1 ID : 264330542695

Option 2 ID : 264330542698

Option 3 ID : 264330542696

Option 4 ID : 264330542697

Status : Answered

Chosen Option : 1

Q.11 दी गई आकृति के उस सही दर्पण प्रतिबिंब को चुनिए, जो नीचे दर्शाए गए अनुसार दर्पण को MN पर रखने पर बनेगा।

X8SeVM5HJ

M  N

Ans

- ✗ 1. X 8 S 6 V W 5 H 1
- ✓ 2. X 8 2 6 Λ W 2 H 1
- ✗ 3. X 8 2 6 Λ M 2 H 1
- ✗ 4. X 8 2 6 V W 5 H 1

Question Type : MCQ

Question ID : 264330137363

Option 1 ID : 264330538081

Option 2 ID : 264330538079

Option 3 ID : 264330538082

Option 4 ID : 264330538080

Status : Answered

Chosen Option : 2

Q.12 एक लिखित कूट भाषा में, 'DEAL' को '22' लिखा जाता है, 'EACH' को '17' लिखा जाता है। उस कूट भाषा में 'HALF' को कैसे लिखा जाएगा?

Ans

- ✗ 1. 25
- ✓ 2. 27
- ✗ 3. 24
- ✗ 4. 26

Question Type : MCQ

Question ID : 264330135598

Option 1 ID : 264330531294

Option 2 ID : 264330531293

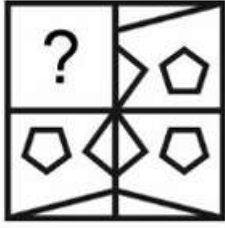
Option 3 ID : 264330531291

Option 4 ID : 264330531292

Status : Answered

Chosen Option : 2

Q.13 कौन-सी उत्तर आकृति प्रश्न आकृति में दिए गए पैटर्न को पूरा करेगी?



Ans

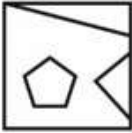
✗ 1.



✓ 2.



✗ 3.



✗ 4.



Question Type : MCQ

Question ID : 264330138539

Option 1 ID : 264330542766

Option 2 ID : 264330542763

Option 3 ID : 264330542765

Option 4 ID : 264330542764

Status : Answered

Chosen Option : 2

Q.14 पाँच कारों A, L, J, M और T के मूल्यों की तुलना की जाती है। A का मूल्य सबसे कम है। कोई भी दो कारों का मूल्य समान नहीं है। J का मूल्य T, L और M से कम है। न तो T और न ही L का मूल्य सबसे अधिक है। T का मूल्य L से कम है। कितनी कारों का मूल्य T के मूल्य से अधिक है?

Ans

✗ 1. 0

✗ 2. 1

✓ 3. 2

✗ 4. 3

Question Type : MCQ

Question ID : 264330138528

Option 1 ID : 264330542719

Option 2 ID : 264330542721

Option 3 ID : 264330542722

Option 4 ID : 264330542720

Status : Answered

Chosen Option : 3

Q.15 निम्नलिखित प्रश्न में कुछ कथन दिए गए हैं और उन कथनों के आधार पर कुछ निष्कर्ष दिए गए हैं। आपको यह मानना है कि दिए गए कथन सत्य हैं चाहे वे सामान्यतः ज्ञात तथ्यों से अलग प्रतीत होते हों। सभी निष्कर्षों को पढ़िए और फिर निश्चय कीजिए कि दिए गए निष्कर्षों में से कौन-सा निष्कर्ष तार्किक रूप से दिए गए कथनों के अनुसार है।

कथन:

I. सभी G, K हैं।

II कुछ K, T हैं।

निष्कर्ष:

I. कोई T, G नहीं है।

II कोई K, T नहीं है।

III सभी K, G हैं।

- Ans**
- 1. दोनों निष्कर्ष I और III कथनों के अनुसार हैं
 - 2. कोई भी निष्कर्ष कथनों के अनुसार नहीं है
 - 3. दोनों निष्कर्ष II और III कथनों के अनुसार हैं
 - 4. दोनों निष्कर्ष I और II कथनों के अनुसार हैं

Question Type : **MCQ**

Question ID : **264330138530**

Option 1 ID : **264330542728**

Option 2 ID : **264330542727**

Option 3 ID : **264330542729**

Option 4 ID : **264330542730**

Status : **Answered**

Chosen Option : **2**

Q.16 एक श्रृंखला दी गई है जिसमें एक पद लुप्त है। दिए गए विकल्पों में से उस सही विकल्प को चुनिए जो श्रृंखला को पूरा करेगा।

ANS, CJU, EFW, GBY, ?

- Ans**
- 1. JXB
 - 2. JWA
 - 3. IWA
 - 4. IXA

Question Type : **MCQ**

Question ID : **264330138519**

Option 1 ID : **264330542683**

Option 2 ID : **264330542686**

Option 3 ID : **264330542684**

Option 4 ID : **264330542685**

Status : **Answered**

Chosen Option : **4**

Q.17 दिए गए समीकरण को सही करने के लिए किन दो चिन्हों को आपस में बदला जाना चाहिए?

$$8 - 9 + 24 \times 63 = 33$$

- Ans
- 1. - और +
 - 2. = और +
 - 3. \times और -
 - 4. - और =

Question Type : MCQ

Question ID : 264330133382

Option 1 ID : 264330522562

Option 2 ID : 264330522561

Option 3 ID : 264330522559

Option 4 ID : 264330522560

Status : Answered

Chosen Option : 3

Q.18 दी गई श्रृंखला में निम्नलिखित में से कौन-सी संख्या प्रश्न चिन्ह (?) के स्थान पर आएगी?

-7, -6, -4, -1, 3, 8, 14, ?

- Ans
- 1. 21
 - 2. 26
 - 3. 18
 - 4. 24

Question Type : MCQ

Question ID : 264330137821

Option 1 ID : 264330539892

Option 2 ID : 264330539891

Option 3 ID : 264330539893

Option 4 ID : 264330539894

Status : Answered

Chosen Option : 1

Q.19 एक लिखित कूट भाषा में, 'DUGPS' को '4377T' लिखा जाता है। उस कूट भाषा में 'AEMJQ' को कैसे लिखा जाएगा?

- Ans
- 1. 1541R
 - 2. 1641R
 - 3. 1R54R
 - 4. 1249R

Question Type : MCQ

Question ID : 264330133701

Option 1 ID : 264330523828

Option 2 ID : 264330523827

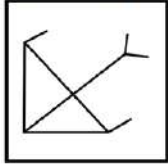
Option 3 ID : 264330523830

Option 4 ID : 264330523829

Status : Answered


Chosen Option : 1

Q.20 उस विकल्प आकृति को चुनिए जिसमें दी गई आकृति उसके भाग के रूप में निहित है (घूर्णन की अनुमति नहीं है)।

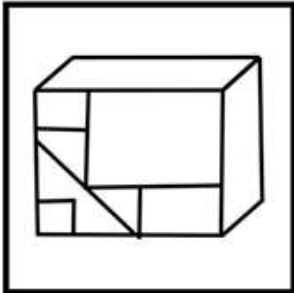


Ans

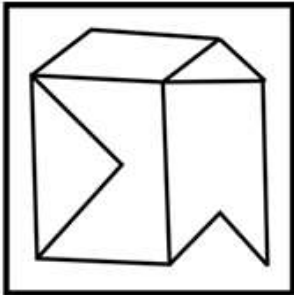
✗ 1.



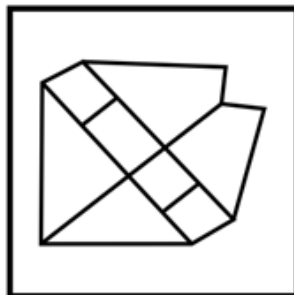
✗ 2.



✗ 3.



✓ 4.



Question Type : **MCQ**

Question ID : **264330137362**

Option 1 ID : **264330538077**

Option 2 ID : **264330538075**

Option 3 ID : **264330538078**

Option 4 ID : **264330538076**

Status : **Answered**

Chosen Option : **4**

Q.1 किस नृत्यांगना को कला में उनके योगदान के लिए वर्ष 2021 में पद्म श्री (Padma Shri) पुरस्कार से सम्मानित किया गया था?

- Ans
- 1. अलारमेल वल्ली (Alarmel Valli)
 - 2. मंजम्मा जोगती (Manjamma Jogati)
 - 3. अपर्णा सतीसन (Aparna Satheesan)
 - 4. पिउली पति (Piuli Pati)

Question Type : MCQ
Question ID : 264330134075
Option 1 ID : 264330525326
Option 2 ID : 264330525325
Option 3 ID : 264330525324
Option 4 ID : 264330525323
Status : Answered
Chosen Option : 2

Q.2 ओजोन परत वायुमंडल की निम्नलिखित में से किस परत में पाई जाती है?

- Ans
- 1. मध्यमंडल
 - 2. बाह्यमंडल
 - 3. क्षोभमंडल
 - 4. समताप मंडल

Question Type : MCQ
Question ID : 264330137927
Option 1 ID : 264330540316
Option 2 ID : 264330540318
Option 3 ID : 264330540317
Option 4 ID : 264330540315
Status : Answered
Chosen Option : 4

Q.3 बांदीपुर राष्ट्रीय उद्यान निम्नलिखित में से किस राज्य में स्थित है?

- Ans
- 1. कर्नाटक
 - 2. आंध्रप्रदेश
 - 3. तमिलनाडु
 - 4. केरल

Question Type : MCQ
Question ID : 264330137926
Option 1 ID : 264330540312
Option 2 ID : 264330540314
Option 3 ID : 264330540313
Option 4 ID : 264330540311
Status : Answered
Chosen Option : 1

Q.4 निम्नलिखित में से किसे भारतीय क्रिकेट कंट्रोल बोर्ड द्वारा नवंबर 2022 में न्यूजीलैंड में तीन मैचों की T20 श्रृंखला के लिए कप्तान के रूप में नामित किया गया था?

- Ans
- 1. विराट कोहली
 - 2. हार्दिक पण्ड्या
 - 3. शिखर धवन
 - 4. ऋषभ पंत

Question Type : MCQ
Question ID : 264330137942
Option 1 ID : 264330540375
Option 2 ID : 264330540378
Option 3 ID : 264330540376
Option 4 ID : 264330540377
Status : Answered
Chosen Option : 4

Q.5 भारत में पश्चिमी चक्रवाती विकसोभ का प्रवेश पश्चिमी प्रवाह द्वारा किस क्षेत्र से होता है?

- Ans
- 1. दक्षिण-अफ्रीकी क्षेत्र (South-African region)
 - 2. भूमध्यसागरीय क्षेत्र (Mediterranean region)
 - 3. दक्षिण-अमेरिकी क्षेत्र (South-American region)
 - 4. पूर्वी यूरोपीय क्षेत्र (Eastern European region)

Question Type : MCQ
Question ID : 264330138314
Option 1 ID : 264330541864
Option 2 ID : 264330541865
Option 3 ID : 264330541863
Option 4 ID : 264330541866
Status : Answered
Chosen Option : 1

Q.6 देश में उत्पादित वस्तुओं पर लगाए गए कर _____ कहलाते हैं।

- Ans
- 1. उत्पादन कर
 - 2. संपत्ति कर
 - 3. एंटी-डंपिंग कर
 - 4. सीमा शुल्क

Question Type : MCQ
Question ID : 264330134080
Option 1 ID : 264330525345
Option 2 ID : 264330525343
Option 3 ID : 264330525344
Option 4 ID : 264330525346
Status : Answered
Chosen Option : 1

Q.7 _____ एक पंचायत के क्षेत्र में रहने वाले सभी वयस्कों की सभा होती है।

- Ans
- ✓ 1. ग्राम सभा
 - ✗ 2. विधान सभा
 - ✗ 3. लोक सभा
 - ✗ 4. राज्य सभा

Question Type : MCQ
Question ID : 264330133867
Option 1 ID : 264330524491
Option 2 ID : 264330524492
Option 3 ID : 264330524493
Option 4 ID : 264330524494
Status : Answered
Chosen Option : 1

Q.8 _____ को केरल के नववर्ष के रूप में मनाया जाता है।

- Ans
- ✗ 1. ओणम
 - ✓ 2. विशु
 - ✗ 3. बोनालु
 - ✗ 4. पोंगल

Question Type : MCQ
Question ID : 264330137064
Option 1 ID : 264330536901
Option 2 ID : 264330536902
Option 3 ID : 264330536899
Option 4 ID : 264330536900
Status : Answered
Chosen Option : 1

Q.9 निम्नलिखित में से कौन वर्ष 1773 से 1785 तक भारत के गवर्नर-जनरल थे?

- Ans
- ✗ 1. विलियम बेंटिंक
 - ✓ 2. वारेन हेस्टिंग्स
 - ✗ 3. लॉर्ड माउंटबेटन
 - ✗ 4. लॉर्ड डलहौजी

Question Type : MCQ
Question ID : 264330133879
Option 1 ID : 264330524539
Option 2 ID : 264330524540
Option 3 ID : 264330524542
Option 4 ID : 264330524541
Status : Answered
Chosen Option : 2

Q.10 महाकाव्य 'पद्मावत(Padmavat)' के लेखक कौन हैं?

- Ans
- 1. अल बिरूनी (Al-Biruni)
 - 2. मलिक मोहम्मद जायसी (Malik Muhammad Jayasi)
 - 3. कुलदीप नैयर (Kuldeep Nayyar)
 - 4. कालिदास(Kalidasa)

Question Type : MCQ
Question ID : 264330134073
Option 1 ID : 264330525318
Option 2 ID : 264330525317
Option 3 ID : 264330525316
Option 4 ID : 264330525315
Status : Answered
Chosen Option : 2

Q.11 फातिमा शेख को _____ के रूप में व्यापक रूप से जाना जाता था।

- Ans
- 1. भारत की पहली महिला मुस्लिम उद्यमी
 - 2. भारत की पहली महिला चिकित्सक
 - 3. भारत की पहली महिला मुस्लिम शिक्षिका
 - 4. भारत की पहली महिला अभियंता

Question Type : MCQ
Question ID : 264330138304
Option 1 ID : 264330541824
Option 2 ID : 264330541826
Option 3 ID : 264330541823
Option 4 ID : 264330541825
Status : Not Answered
Chosen Option : --

Q.12 वर्ष 2022 के शीतकालीन ओलंपिक के लिए क्वालीफाई होने वाले एकमात्र भारतीय कौन थे?

- Ans
- 1. शिव केशवन
 - 2. आरिफ मोहम्मद खान
 - 3. नदीम इकबाल
 - 4. हिमांशु ठाकुर

Question Type : MCQ
Question ID : 264330138299
Option 1 ID : 264330541805
Option 2 ID : 264330541803
Option 3 ID : 264330541806
Option 4 ID : 264330541804
Status : Not Answered
Chosen Option : --

Q.13 1867 में, केशव चंद्र सेन ने _____ में प्रार्थना समाज की स्थापना करने में सहायता की।

- Ans
- 1. कलकत्ता
 - 2. मद्रास
 - 3. बॉम्बे
 - 4. पुणे

Question Type : MCQ

Question ID : 264330137077

Option 1 ID : 264330536953

Option 2 ID : 264330536951

Option 3 ID : 264330536952

Option 4 ID : 264330536954

Status : Answered

Chosen Option : 3

Q.14 निम्नलिखित में से चंद्रगुप्त द्वितीय के दरबार के नवरत्नों में से किसने 'मंत्रशास्त्र (Mantrashastra)' लिखा था?

- Ans
- 1. घटकर्पर (Ghatakarapara)
 - 2. अमरसिम्हा (Amarasimha)
 - 3. कालिदास (Kalidasa)
 - 4. वेताल भट्ट (Vetala Bhatta)

Question Type : MCQ

Question ID : 264330137074

Option 1 ID : 264330536942

Option 2 ID : 264330536941

Option 3 ID : 264330536939

Option 4 ID : 264330536940

Status : Answered

Chosen Option : 3

Q.15 पहल (PAHAL) योजना के तहत घरेलू उपभोक्ता को एलपीजी(LPG) सिलिंडर _____ द्वारा दी जाती है।

- Ans
- 1. आवास और शहरी मामलों के मंत्रालय
 - 2. उपभोक्ता मामले मंत्रालय
 - 3. पेट्रोलियम एवं प्राकृतिक गैस मंत्रालय
 - 4. वित्त मंत्रालय

Question Type : MCQ

Question ID : 264330138305

Option 1 ID : 264330541827

Option 2 ID : 264330541828

Option 3 ID : 264330541830

Option 4 ID : 264330541829

Status : Answered

Chosen Option : 1

Q.16 जनसंख्या के घनत्व को _____ द्वारा अभिव्यक्त किया जाता है।

- Ans
- 1. प्रति इकाई क्षेत्र में साक्षर व्यक्तियों की संख्या
 - 2. प्रति इकाई क्षेत्र में व्यक्तियों की संख्या
 - 3. प्रति इकाई क्षेत्र में पशुओं और व्यक्तियों की संख्या
 - 4. प्रति इकाई क्षेत्र में ग्रामीण व्यक्तियों की संख्या

Question Type : MCQ
Question ID : 264330138693
Option 1 ID : 264330543381
Option 2 ID : 264330543379
Option 3 ID : 264330543382
Option 4 ID : 264330543380
Status : Answered
Chosen Option : 2

Q.17 मुगल साम्राज्य के सेनापति जय सिंह प्रथम और शिवाजी के बीच पुरंदर की संधि कब हुई थी?

- Ans
- 1. 1665
 - 2. 1702
 - 3. 1639
 - 4. 1681

Question Type : MCQ
Question ID : 264330137933
Option 1 ID : 264330540341
Option 2 ID : 264330540340
Option 3 ID : 264330540342
Option 4 ID : 264330540339
Status : Answered
Chosen Option : 1

Q.18 निम्नलिखित में से किस अनुच्छेद में "शोषण के विरुद्ध अधिकार" का उल्लेख है?

- Ans
- 1. अनुच्छेद 29 - 30
 - 2. अनुच्छेद 25 - 28
 - 3. अनुच्छेद 23 - 24
 - 4. अनुच्छेद 32 - 35

Question Type : MCQ
Question ID : 264330138308
Option 1 ID : 264330541840
Option 2 ID : 264330541841
Option 3 ID : 264330541839
Option 4 ID : 264330541842
Status : Answered
Chosen Option : 3

Q.19 लौह स्तंभ निम्नलिखित में से किस जगह स्थित है?

- Ans
- 1. कोलकाता
 - 2. दिल्ली
 - 3. चेन्नई
 - 4. जयपुर

Question Type : MCQ
Question ID : 264330133858
Option 1 ID : 264330524455
Option 2 ID : 264330524456
Option 3 ID : 264330524457
Option 4 ID : 264330524458
Status : Answered
Chosen Option : 4

Q.20 अरुणाचल प्रदेश का तापू नृत्य (Tapu dance) _____ के सदस्यों द्वारा किया जाता है।

- Ans
- 1. गरसिया जनजाति (Garasia Tribe)
 - 2. आदि जनजाति (Adi Tribe)
 - 3. मुंडा जनजाति (Munda tribe)
 - 4. डामोर जनजाति (Damor Tribe)

Question Type : MCQ
Question ID : 264330138296
Option 1 ID : 264330541794
Option 2 ID : 264330541792
Option 3 ID : 264330541791
Option 4 ID : 264330541793
Status : Not Answered
Chosen Option : --

Q.21 निम्नलिखित में से कौन-सी एक अधातु है जो विभिन्न रूपों में पाई जाती है?

- Ans
- 1. कार्बन
 - 2. पोटैशियम
 - 3. पारा
 - 4. लीथियम

Question Type : MCQ
Question ID : 264330137924
Option 1 ID : 264330540303
Option 2 ID : 264330540305
Option 3 ID : 264330540306
Option 4 ID : 264330540304
Status : Answered
Chosen Option : 1

Q.22 फूल के अंतरतम भाग को _____ कहा जाता है।

- Ans
- 1. बाह्यदल
 - 2. पुंकेसर
 - 3. पंखुड़ियाँ
 - 4. स्त्रीकेसर

Question Type : MCQ
Question ID : 264330138309
Option 1 ID : 264330541844
Option 2 ID : 264330541846
Option 3 ID : 264330541845
Option 4 ID : 264330541843
Status : Answered
Chosen Option : 4

Q.23 "भारत के सर्वोच्च न्यायालय" के स्थान से संबंधित प्रावधानों का उल्लेख किस अनुच्छेद में किया गया है?

- Ans
- 1. अनुच्छेद 129
 - 2. अनुच्छेद 131
 - 3. अनुच्छेद 132
 - 4. अनुच्छेद 130

Question Type : MCQ
Question ID : 264330134605
Option 1 ID : 264330527375
Option 2 ID : 264330527377
Option 3 ID : 264330527378
Option 4 ID : 264330527376
Status : Not Answered
Chosen Option : --

Q.24 अल्ला रक्खा ने 12 साल की उम्र में महान गुरु (उस्ताद) मियां कादिर बख्श की शागिर्दी में एक संगीत वाद्ययंत्र सीखने के लिए घर छोड़ दिया था। वह _____ के एक प्रसिद्ध वादक बने।

- Ans
- 1. सरोद
 - 2. तबला
 - 3. सारंगी
 - 4. सितार

Question Type : MCQ
Question ID : 264330138302
Option 1 ID : 264330541815
Option 2 ID : 264330541817
Option 3 ID : 264330541818
Option 4 ID : 264330541816
Status : Answered
Chosen Option : 2

Q.25 भारतीय सीमाओं पर सड़कों के विकास और अनुरक्षण के लिए कौन-सा संगठन जिम्मेदार है?

- Ans
- 1. पूर्वी सड़क मार्ग संगठन
 - 2. राष्ट्रीय हरित राजमार्ग परियोजना
 - 3. सीमा सड़क संगठन
 - 4. पश्चिमी सड़क मार्ग संगठन

Question Type : MCQ
Question ID : 264330134065
Option 1 ID : 264330525285
Option 2 ID : 264330525284
Option 3 ID : 264330525283
Option 4 ID : 264330525286
Status : Answered
Chosen Option : 3

Section : English Language and Comprehension

Q.1 Identify the segment that contains a grammatical error. If there is no error, select 'No error'.

Even if a evidence was / relevant to the case, it couldn't / be used to determine the reprobate.

- Ans
- 1. be used to determine the reprobate.
 - 2. relevant to the case, it couldn't
 - 3. No error
 - 4. Even if a evidence was,

Question Type : MCQ
Question ID : 264330136667
Option 1 ID : 264330535389
Option 2 ID : 264330535388
Option 3 ID : 264330535390
Option 4 ID : 264330535387
Status : Answered
Chosen Option : 4

Q.2 Select the most appropriate antonym to substitute the bracketed word in the given sentence.

For years he pursued a (vendetta) against the Morris family.

- Ans
- 1. traduce
 - 2. conflict
 - 3. tirade
 - 4. harmony

Question Type : MCQ
Question ID : 264330136684
Option 1 ID : 264330535454
Option 2 ID : 264330535452
Option 3 ID : 264330535453
Option 4 ID : 264330535451
Status : Answered
Chosen Option : 4

Q.3 Select the most appropriate meaning of the bracketed idiom in the given sentence.

With one goal remaining, they weren't (out of the woods) just yet.

- Ans**
- 1. Between two dangers
 - 2. Without hope
 - 3. Free from difficulties and dangers
 - 4. Under his control

Question Type : **MCQ**
Question ID : **264330136686**
Option 1 ID : **264330535460**
Option 2 ID : **264330535459**
Option 3 ID : **264330535461**
Option 4 ID : **264330535462**
Status : **Answered**
Chosen Option : **3**

Q.4 Improve the underlined part of the sentence. Choose 'No improvement' as an answer if the sentence is grammatically correct.

In the summer, the weathering can be very hot around here.

- Ans**
- 1. weathers could being
 - 2. weather is be
 - 3. weather can be
 - 4. No improvement

Question Type : **MCQ**
Question ID : **264330135208**
Option 1 ID : **264330529761**
Option 2 ID : **264330529759**
Option 3 ID : **264330529760**
Option 4 ID : **264330529762**
Status : **Answered**
Chosen Option : **3**

Q.5 Select the wrongly spelt word.

- Ans**
- 1. Discripancy
 - 2. Indispensable
 - 3. Tyranny
 - 4. Pastime

Question Type : **MCQ**
Question ID : **264330135790**
Option 1 ID : **264330532038**
Option 2 ID : **264330532037**
Option 3 ID : **264330532035**
Option 4 ID : **264330532036**
Status : **Answered**
Chosen Option : **2**

Q.6 Select the most appropriate word for the given group of words.

The sound of owls

- Ans 1. Hoot
 2. Croak
 3. Honk
 4. Neigh

Question Type : MCQ
Question ID : 264330136305
Option 1 ID : 264330533998
Option 2 ID : 264330533995
Option 3 ID : 264330533996
Option 4 ID : 264330533997
Status : Answered
Chosen Option : 1

Q.7 Select the most appropriate synonym of the given word.

Virtuoso

- Ans 1. Waive
 2. Maestro
 3. Novice
 4. Voluble

Question Type : MCQ
Question ID : 264330136681
Option 1 ID : 264330535439
Option 2 ID : 264330535441
Option 3 ID : 264330535442
Option 4 ID : 264330535440
Status : Answered
Chosen Option : 2

Q.8 Find the part of the given sentence that has an error in it. If there is no error, choose 'No error'.

She never did apologized for her misconduct with the boss.

- Ans 1. for her misconduct
 2. No error
 3. with the boss.
 4. She never did apologized

Question Type : MCQ
Question ID : 264330134295
Option 1 ID : 264330526176
Option 2 ID : 264330526178
Option 3 ID : 264330526177
Option 4 ID : 264330526175
Status : Answered
Chosen Option : 4

Q.9 Select the most appropriate word for the given group of words.

Rights to vote in an election

- Ans**
- 1. Orchard
 - 2. Suffrage
 - 3. Propaganda
 - 4. Potable

Question Type : **MCQ**
Question ID : **264330136680**
Option 1 ID : **264330535438**
Option 2 ID : **264330535436**
Option 3 ID : **264330535435**
Option 4 ID : **264330535437**
Status : **Answered**
Chosen Option : **2**

Q.10 Select the most appropriate option to fill in the blank.

Obesity is also a progressive condition, unlike anorexia nervosa, which tends to _____ with age.

- Ans**
- 1. struggle
 - 2. negate
 - 3. ameliorate
 - 4. inebriate

Question Type : **MCQ**
Question ID : **264330136671**
Option 1 ID : **264330535405**
Option 2 ID : **264330535406**
Option 3 ID : **264330535403**
Option 4 ID : **264330535404**
Status : **Not Answered**
Chosen Option : **--**

Q.11 Select the most appropriate option to fill in the blank.

In my view, this falls within the exception permitting warrantless seizure in _____ circumstances.

- Ans**
- 1. exigent
 - 2. reverent
 - 3. sparse
 - 4. recondite

Question Type : **MCQ**
Question ID : **264330136690**
Option 1 ID : **264330535476**
Option 2 ID : **264330535477**
Option 3 ID : **264330535478**
Option 4 ID : **264330535475**
Status : **Not Answered**
Chosen Option : **--**

Q.12 Select the word segment that substitutes (replaces) the bracketed word segment correctly and completes the sentence meaningfully. Select the option 'no correction required' if the sentence is correct as given.
(Their heads were) dragonish, and their pupil-less eyes white and staring.

- Ans**
- 1. Their heads was
 - 2. There heads were
 - 3. No correction required
 - 4. Their head were

Question Type : **MCQ**
Question ID : **264330136696**
Option 1 ID : **264330535500**
Option 2 ID : **264330535499**
Option 3 ID : **264330535502**
Option 4 ID : **264330535501**
Status : **Answered**
Chosen Option : **4**

Q.13 Improve the underlined part of the sentence. Choose 'No improvement' as an answer if the sentence is grammatically correct.

Fishermen make their lives from the sea.

- Ans**
- 1. their live
 - 2. No improvement
 - 3. his living
 - 4. there livings

Question Type : **MCQ**
Question ID : **264330136798**
Option 1 ID : **264330535893**
Option 2 ID : **264330535894**
Option 3 ID : **264330535891**
Option 4 ID : **264330535892**
Status : **Answered**
Chosen Option : **1**

Q.14 Find the part of the given sentence that has an error in it. If there is no error, choose 'No error'.
Some realistic estimate will be knew after advance tax collection figures are out.

- Ans**
- 1. No error
 - 2. tax collection figures are out.
 - 3. be knew after advance
 - 4. Some realistic estimate will

Question Type : **MCQ**
Question ID : **264330136795**
Option 1 ID : **264330535882**
Option 2 ID : **264330535881**
Option 3 ID : **264330535880**
Option 4 ID : **264330535879**
Status : **Answered**
Chosen Option : **3**

Q.15 Select the most appropriate meaning of the given idiom.

Far and wide

- Ans**
- 1. Equal opportunity to all
 - 2. Divided into two equal parts
 - 3. Not frequent, unusual, rare
 - 4. Present everywhere

Question Type : **MCQ**
Question ID : **264330136311**
Option 1 ID : **264330534019**
Option 2 ID : **264330534021**
Option 3 ID : **264330534020**
Option 4 ID : **264330534022**
Status : **Answered**
Chosen Option : **4**

Q.16 Choose the word that is opposite in meaning to the given word.
Adhere

- Ans**
- 1. Approve
 - 2. Establish
 - 3. Compel
 - 4. Condemn

Question Type : **MCQ**
Question ID : **264330134338**
Option 1 ID : **264330526339**
Option 2 ID : **264330526340**
Option 3 ID : **264330526342**
Option 4 ID : **264330526341**
Status : **Answered**
Chosen Option : **4**

Q.17 Select the most appropriate option to fill in the blank.
Sitting at the computer I saw something large and dark fall past my _____ vision followed by a dull thwack.

- Ans**
- 1. peripheral
 - 2. central
 - 3. external
 - 4. incidental

Question Type : **MCQ**
Question ID : **264330135800**
Option 1 ID : **264330532076**
Option 2 ID : **264330532078**
Option 3 ID : **264330532077**
Option 4 ID : **264330532075**
Status : **Answered**
Chosen Option : **1**

Q.18 Select the most appropriate synonym to substitute the bracketed word in the given sentence.
If you think atheists are all miserable, (nihilistic) amoralists, this book should put you straight.

- Ans**
- ✓ 1. cynical
 - ✗ 2. tyrannical
 - ✗ 3. conical
 - ✗ 4. canonical

Question Type : **MCQ**
Question ID : **264330135810**
Option 1 ID : **264330532114**
Option 2 ID : **264330532113**
Option 3 ID : **264330532111**
Option 4 ID : **264330532112**
Status : **Answered**
Chosen Option : **1**

Q.19 Fill in the blank with the most appropriate choice
At the _____ of the century the early evangelistic zeal of the chief Protestant denominations had notably lessened.

- Ans**
- ✗ 1. final
 - ✗ 2. ante
 - ✗ 3. angst
 - ✓ 4. end

Question Type : **MCQ**
Question ID : **264330135791**
Option 1 ID : **264330532041**
Option 2 ID : **264330532040**
Option 3 ID : **264330532039**
Option 4 ID : **264330532042**
Status : **Answered**
Chosen Option : **4**

Q.20 Select the correctly spelt word.

- Ans**
- ✓ 1. Intensity
 - ✗ 2. Intansity
 - ✗ 3. Intencity
 - ✗ 4. Inteansity

Question Type : **MCQ**
Question ID : **264330136687**
Option 1 ID : **264330535463**
Option 2 ID : **264330535466**
Option 3 ID : **264330535464**
Option 4 ID : **264330535465**
Status : **Answered**
Chosen Option : **1**

Comprehension:

In the following passage some of the words have been deleted. Read the passage carefully and select the correct answer for the given blank out of the four alternatives.

As an industrial solvent, pyridine is used in a (1) _____ range of manufacturing processes. It is also a by-product of coking coal, a crucial (2) _____ for steel production. The Tees area was home to both steel and chemical (3) _____ and the discharge of contaminated effluent (4) _____ the river and surrounding wetlands has been (5) _____ practice, often with minimal or no treatment.

SubQuestion No : 21

Q.21 Select the most appropriate option to fill in blank number 1.

- Ans 1. wide
 2. widely
 3. wider
 4. widest

Question Type : **MCQ**

Question ID : **264330134329**

Option 1 ID : **264330526305**

Option 2 ID : **264330526304**

Option 3 ID : **264330526306**

Option 4 ID : **264330526303**

Status : **Answered**

Chosen Option : **2**

Comprehension:

In the following passage some of the words have been deleted. Read the passage carefully and select the correct answer for the given blank out of the four alternatives.

As an industrial solvent, pyridine is used in a (1) _____ range of manufacturing processes. It is also a by-product of coking coal, a crucial (2) _____ for steel production. The Tees area was home to both steel and chemical (3) _____ and the discharge of contaminated effluent (4) _____ the river and surrounding wetlands has been (5) _____ practice, often with minimal or no treatment.

SubQuestion No : 22

Q.22 Select the most appropriate option to fill in blank number 2.

- Ans 1. desire
 2. load
 3. code
 4. input

Question Type : **MCQ**

Question ID : **264330134330**

Option 1 ID : **264330526308**

Option 2 ID : **264330526310**

Option 3 ID : **264330526307**

Option 4 ID : **264330526309**

Status : **Answered**

Chosen Option : **4**

Comprehension:

In the following passage some of the words have been deleted. Read the passage carefully and select the correct answer for the given blank out of the four alternatives.

As an industrial solvent, pyridine is used in a (1) _____ range of manufacturing processes. It is also a by-product of coking coal, a crucial (2) _____ for steel production. The Tees area was home to both steel and chemical (3) _____ and the discharge of contaminated effluent (4) _____ the river and surrounding wetlands has been (5) _____ practice, often with minimal or no treatment.

SubQuestion No : 23**Q.23** Select the most appropriate option to fill in blank number 3.

- Ans 1. monopoly
 2. salutation
 3. industries
 4. fabrication

Question Type : **MCQ**Question ID : **264330134331**Option 1 ID : **264330526311**Option 2 ID : **264330526314**Option 3 ID : **264330526312**Option 4 ID : **264330526313**Status : **Answered**Chosen Option : **3****Comprehension:**

In the following passage some of the words have been deleted. Read the passage carefully and select the correct answer for the given blank out of the four alternatives.

As an industrial solvent, pyridine is used in a (1) _____ range of manufacturing processes. It is also a by-product of coking coal, a crucial (2) _____ for steel production. The Tees area was home to both steel and chemical (3) _____ and the discharge of contaminated effluent (4) _____ the river and surrounding wetlands has been (5) _____ practice, often with minimal or no treatment.

SubQuestion No : 24**Q.24** Select the most appropriate option to fill in blank number 4.

- Ans 1. into
 2. in
 3. on
 4. to

Question Type : **MCQ**Question ID : **264330134332**Option 1 ID : **264330526318**Option 2 ID : **264330526316**Option 3 ID : **264330526317**Option 4 ID : **264330526315**Status : **Answered**Chosen Option : **2**

Comprehension:

In the following passage some of the words have been deleted. Read the passage carefully and select the correct answer for the given blank out of the four alternatives.

As an industrial solvent, pyridine is used in a (1) _____ range of manufacturing processes. It is also a by-product of coking coal, a crucial (2) _____ for steel production. The Tees area was home to both steel and chemical (3) _____ and the discharge of contaminated effluent (4) _____ the river and surrounding wetlands has been (5) _____ practice, often with minimal or no treatment.

SubQuestion No : 25

Q.25 Select the most appropriate option to fill in blank number 5.

- Ans 1. maniac
 2. ruckus
 3. common
 4. bogus

Question Type : **MCQ**

Question ID : **264330134333**

Option 1 ID : **264330526319**

Option 2 ID : **264330526320**

Option 3 ID : **264330526322**

Option 4 ID : **264330526321**

Status : **Answered**

Chosen Option : **4**

Multi Tasking Non Technical Staff and Havaladar CBIC and CBN Examination 2022

Roll Number	KD Job Updates
Candidate Name	KD Job Updates
Venue Name	ANAND INTERNATIONAL COLLEGE OF ENGINEERING JAIPUR
Exam Date	12/05/2023
Exam Time	12:00 PM - 2:00 PM
Subject	MTS Non Tech Havaladar CBIC and CBN Examination 2022

Section : Numerical and Mathematical Ability

Q.1 10 cm लंबाई के एक रेखाखंड को मापते समय गलती से उसे 10.2 cm नाप लिया गया, माप में प्रतिशत त्रुटि कितनी है?

- Ans
- 1. 1%
 - 2. 0.2%
 - 3. 0.5%
 - 4. 2%

Question Type : MCQ

Question ID : 264330138352

Option 1 ID : 264330542015

Option 2 ID : 264330542017

Option 3 ID : 264330542018

Option 4 ID : 264330542016

Status : Answered

Chosen Option : 4

Q.2 44, 10 और 5 के लघुत्तम समापवर्त्य (LCM) तथा 50 और 75 के महत्तम समापवर्तक (HCF) का अनुपात ज्ञात कीजिए।

- Ans
- 1. 45 : 7
 - 2. 50 : 3
 - 3. 15 : 2
 - 4. 44 : 5

Question Type : MCQ

Question ID : 264330135066

Option 1 ID : 264330529200

Option 2 ID : 264330529201

Option 3 ID : 264330529202

Option 4 ID : 264330529199

Status : Answered

Chosen Option : 4

Q.3 $2[2.75 \times 2.75 + 1.25 \times 1.25]$ का मान क्या है?

- Ans
- 1. 15.75
 - 2. 18.25
 - 3. 17.50
 - 4. 19.75

Question Type : MCQ

Question ID : 264330137682

Option 1 ID : 264330539335

Option 2 ID : 264330539337

Option 3 ID : 264330539336

Option 4 ID : 264330539338

Status : Answered

Chosen Option : 2

Q.4 एक समूह में 1200 पुरुष हैं। उनके पास 80 दिन का खाना है। 5 दिनों के बाद, 400 पुरुषों ने समूह छोड़ दिया। बचा हुआ खाना कितने दिनों तक चलेगा?

- Ans
- 1. 110.5 दिन
 - 2. 140.8 दिन
 - 3. 125 दिन
 - 4. 112.5 दिन

Question Type : MCQ

Question ID : 264330137666

Option 1 ID : 264330539273

Option 2 ID : 264330539274

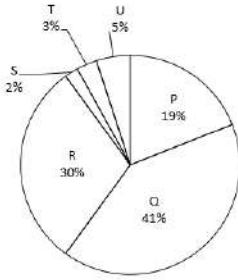
Option 3 ID : 264330539271

Option 4 ID : 264330539272

Status : Answered

Chosen Option : 4

- Q.5** नीचे दिए गए वृत्त आलेख में 6 अलग-अलग कारखानों के उत्पादन को दर्शाया गया है। इन सभी 6 कारखानों का कुल उत्पादन 17000 है। इनमें से किसी एक विशिष्ट कारखाने के उत्पादन को इन सभी 6 कारखानों के कुल उत्पादन के प्रतिशत के रूप में दर्शाया गया है।



निम्नलिखित में से कौन-सा कथन सही नहीं है?

- P और R के कुल उत्पादन तथा Q और U के कुल उत्पादन का अनुपात 49 : 46 है।
- S और T का कुल उत्पादन, P और Q के कुल उत्पादन से 91.66 प्रतिशत अधिक है।

Ans 1. केवल II

2. न तो I और न ही II

3. केवल I

4. I और II दोनों

Question Type : MCQ

Question ID : 264330137622

Option 1 ID : 264330539096

Option 2 ID : 264330539098

Option 3 ID : 264330539095

Option 4 ID : 264330539097

Status : Answered

Chosen Option : 1

- Q.6** नाव द्वारा धारा के प्रतिकूल x किमी की दूरी तय करने में लिया गया समय, नाव द्वारा धारा के अनुकूल समान दूरी तय करने में लिए गए समय से 3 घंटे अधिक है। धारा के प्रतिकूल नाव की चाल 8 km/hr है।

निम्नलिखित में से कौन-सा/से कथन सही है/हैं?

- यदि x का मान 48 km है, तो धारा के अनुकूल नाव की चाल 16 km/hr है।
- यदि धारा के अनुकूल नाव की चाल 12 km/hr है, तो x का मान 48 km है।

Ans 1. केवल I

2. केवल II

3. I और II दोनों

4. न तो I और न ही II

Question Type : MCQ

Question ID : 264330137605

Option 1 ID : 264330539027

Option 2 ID : 264330539028

Option 3 ID : 264330539030

Option 4 ID : 264330539029

Status : Answered

Chosen Option : 4

Q.7 नीचे दी गई तालिका में विभिन्न कंपनियों द्वारा किए गए टेलीविज़न और फ्रिज के उत्पादन को दर्शाया गया है।

कंपनी	टेलीविज़न	फ्रिज
A	60	80
B	50	30
C	40	20
D	30	50
E	70	35

J1 = D और E द्वारा फ्रिज के औसत उत्पादन का मान।

J2 = सभी कंपनियों द्वारा टेलीविज़न और फ्रिज का कुल उत्पादन।

(J2 - J1) का मान क्या है?

- Ans
- 1. 456.2
 - 2. 422.5
 - 3. 314.5
 - 4. 465

Question Type : MCQ

Question ID : 264330137683

Option 1 ID : 264330539341

Option 2 ID : 264330539340

Option 3 ID : 264330539342

Option 4 ID : 264330539339

Status : Answered

Chosen Option : 2

Q.8 यदि $p : q = 7 : 5$, तो $\frac{(p^2+q^2)}{(p^2-q^2)}$ का मान क्या है?

- Ans
- 1. 48/7
 - 2. 37/12
 - 3. 38/5
 - 4. 36/11

Question Type : MCQ

Question ID : 264330137611

Option 1 ID : 264330539053

Option 2 ID : 264330539054

Option 3 ID : 264330539052

Option 4 ID : 264330539051

Status : Answered

Chosen Option : 2

Q.9 एक शंकु की ऊँचाई 12 cm है और इसके आधार की विज्या 14 cm है। शंकु का आयतन क्या है?

- Ans
- 1. 2872 cm³
 - 2. 2248 cm³
 - 3. 2464 cm³
 - 4. 2692 cm³

Question Type : MCQ

Question ID : 264330137335

Option 1 ID : 264330537968

Option 2 ID : 264330537969

Option 3 ID : 264330537967

Option 4 ID : 264330537970

Status : Answered

Chosen Option : 3

Q.10 दिनेश समान दूरी की चार यात्राएँ करता है। पहली यात्रा में उसकी चाल 140 km/hr थी और बाद की प्रत्येक यात्रा में उसकी चाल पिछली यात्रा की चाल से आधी थी। इन चारों यात्राओं में दिनेश की औसत चाल क्या है?

- Ans
- 1. (124/3) km/hr
 - 2. 44 km/hr
 - 3. 40 km/hr
 - 4. (112/3) km/hr

Question Type : MCQ

Question ID : 264330137156

Option 1 ID : 264330537270

Option 2 ID : 264330537269

Option 3 ID : 264330537267

Option 4 ID : 264330537268

Status : Answered

Chosen Option : 4

Q.11 कृष्णा 6 घंटे में बिंदु A से बिंदु B तक यात्रा करता है और 5 घंटे में बिंदु B से बिंदु A पर वापस आता है। बिंदु A और बिंदु B एक सीधे राजमार्ग पर एक-दूसरे से 220 मील दूर हैं। पूरी यात्रा में कृष्णा की औसत चाल क्या है?

- Ans
- 1. 22 मील/घंटा
 - 2. 50 मील/घंटा
 - 3. 40 मील/घंटा
 - 4. 44 मील/घंटा

Question Type : MCQ

Question ID : 264330138704

Option 1 ID : 264330543425

Option 2 ID : 264330543426

Option 3 ID : 264330543424

Option 4 ID : 264330543423

Status : Answered

Chosen Option : 3

Q.12 Rs. 16400 पर 1 वर्ष के लिए अर्धवार्षिक रूप से संयोजित 9% वार्षिक चक्रवृद्धि ब्याज कितना है?

- Ans
- 1. Rs.1608.20
 - 2. Rs.1640.40
 - 3. Rs.1680.90
 - 4. Rs.1509.21

Question Type : MCQ

Question ID : 264330138359

Option 1 ID : 264330542043

Option 2 ID : 264330542046

Option 3 ID : 264330542045

Option 4 ID : 264330542044

Status : Answered

Chosen Option : 2

Q.13 यदि 10 प्रतिशत और 20 प्रतिशत की दो क्रमागत छूट दी जाती है, तो निवल छूट कितनी है?

- Ans 1. 28 प्रतिशत
 2. 20 प्रतिशत
 3. 22 प्रतिशत
 4. 25 प्रतिशत

Question Type : MCQ
Question ID : 264330137615
Option 1 ID : 264330539068
Option 2 ID : 264330539069
Option 3 ID : 264330539067
Option 4 ID : 264330539070
Status : Answered
Chosen Option : 1

Q.14 15 संख्याओं का औसत 45 है। एक और संख्या जोड़ने पर नया औसत 50 हो जाता है। वह नई संख्या क्या है?

- Ans 1. 125
 2. 105
 3. 115
 4. 118

Question Type : MCQ
Question ID : 264330137606
Option 1 ID : 264330539032
Option 2 ID : 264330539033
Option 3 ID : 264330539031
Option 4 ID : 264330539034
Status : Answered
Chosen Option : 1

Q.15 एक व्यापारी अपने माल को क्रय मूल्य से 44% अधिक मूल्य पर अंकित करता है। फिर वह उस पर 50% का बड़ा देता है, तो उसका हानि प्रतिशत कितना होगा?

- Ans 1. 28%
 2. 26%
 3. 25%
 4. 32%

Question Type : MCQ
Question ID : 264330138397
Option 1 ID : 264330542195
Option 2 ID : 264330542198
Option 3 ID : 264330542197
Option 4 ID : 264330542196
Status : Answered
Chosen Option : 1

Q.16 एक पहिए की त्रिज्या 21 cm है। 20 चक्करों में पहिए द्वारा तय की गई दूरी (cm में) कितनी होगी?

- Ans
- ✓ 1. 2640 cm
 - ✗ 2. 1500 cm
 - ✗ 3. 1440 cm
 - ✗ 4. 2100 cm

Question Type : MCQ

Question ID : 264330133794

Option 1 ID : 264330524199

Option 2 ID : 264330524201

Option 3 ID : 264330524200

Option 4 ID : 264330524202

Status : Answered

Chosen Option : 1

Q.17 विजय Rs. 13 प्रति दर्जन की दर से केले बेचता है और 30 प्रतिशत का लाभ अर्जित करता है। केले के क्रय मूल्य में 10 प्रतिशत की वृद्धि हो जाती है। यदि विक्रय मूल्य वही रहता है, तो उसका नया लाभ प्रतिशत क्या है?

- Ans
- ✗ 1. 12.5 प्रतिशत
 - ✗ 2. 16.66 प्रतिशत
 - ✗ 3. 14.28 प्रतिशत
 - ✓ 4. 18.18 प्रतिशत

Question Type : MCQ

Question ID : 264330137610

Option 1 ID : 264330539047

Option 2 ID : 264330539049

Option 3 ID : 264330539048

Option 4 ID : 264330539050

Status : Answered

Chosen Option : 1

Q.18 एक त्रिभुज की भुजाएँ 6 cm, 8 cm और 10 cm हैं। त्रिभुज का क्षेत्रफल कितना है?

- Ans
- ✗ 1. 28 cm^2
 - ✓ 2. 24 cm^2
 - ✗ 3. 20 cm^2
 - ✗ 4. 16 cm^2

Question Type : MCQ

Question ID : 264330137679

Option 1 ID : 264330539324

Option 2 ID : 264330539326

Option 3 ID : 264330539325

Option 4 ID : 264330539323

Status : Answered

Chosen Option : 2

Q.19 Rs. 6000 को P, Q और R के बीच 5 : 7 : 8 के अनुपात में बाँटा जाना था। त्रुटिवश इसे P, Q और R के बीच 9 : 7 : 4 के अनुपात में बाँट दिया गया। इस बँटवारे में R को कितनी राशि की हानि हुई?

- Ans
- 1. Rs. 600
 - 2. Rs. 1200
 - 3. Rs. 900
 - 4. Rs. 300

Question Type : MCQ
Question ID : 264330137612
Option 1 ID : 264330539055
Option 2 ID : 264330539057
Option 3 ID : 264330539056
Option 4 ID : 264330539058
Status : Answered
Chosen Option : 2

Q.20 10, 12 और 15 का लघुत्तम समापवर्त्य क्या है?

- Ans
- 1. 120
 - 2. 30
 - 3. 180
 - 4. 60

Question Type : MCQ
Question ID : 264330137618
Option 1 ID : 264330539080
Option 2 ID : 264330539081
Option 3 ID : 264330539079
Option 4 ID : 264330539082
Status : Answered
Chosen Option : 4

Section : Reasoning Ability and Problem Solving

Q.1 दी गई दो संख्याओं को आपस में बदलने पर दिए गए समीकरण का मान क्या होगा?

$$3 \text{ और } 4 ; 3 \times 7 - 8 \div 2 + 4$$

- Ans
- 1. 30
 - 2. 31
 - 3. 27
 - 4. 35

Question Type : MCQ
Question ID : 264330137532
Option 1 ID : 264330538736
Option 2 ID : 264330538737
Option 3 ID : 264330538735
Option 4 ID : 264330538738
Status : Answered
Chosen Option : 3

Q.2 एक निश्चित कूट भाषा में, 'NIGHT' को '96270' लिखा जाता है, 'OFTEN' को '87561' लिखा जाता है, 'PILOT' को '23745' लिखा जाता है। उस कूट भाषा में 'INF' को कैसे लिखा जाएगा?

- Ans
- 1. 269
 - 2. 264
 - 3. 268
 - 4. 257

Question Type : MCQ

Question ID : 264330137115

Option 1 ID : 264330537103

Option 2 ID : 264330537106

Option 3 ID : 264330537104

Option 4 ID : 264330537105

Status : Answered

Chosen Option : 1

Q.3 उस विकल्प को चुनिए जो पाँचवें पद से ठीक उसी प्रकार संबंधित है जिस प्रकार दूसरा पद पहले पद से संबंधित है और चौथा पद तीसरे पद से संबंधित है।

FOM : IJT :: HIT : KDA :: FBQ : ?

- Ans
- 1. JWX
 - 2. KXX
 - 3. IXX
 - 4. IWX

Question Type : MCQ

Question ID : 264330137518

Option 1 ID : 264330538680

Option 2 ID : 264330538681

Option 3 ID : 264330538682

Option 4 ID : 264330538679

Status : Answered

Chosen Option : 4

Q.4 उस विकल्प को चुनिए जो चौथे पद से ठीक उसी प्रकार संबंधित है जिस प्रकार पहला पद दूसरे पद से संबंधित है और पाँचवा पद छठे पद से संबंधित है।

AKV : ZIS :: ? : ENI :: PQR : OOO

- Ans
- 1. FOL
 - 2. EQL
 - 3. FPL
 - 4. EPL

Question Type : MCQ

Question ID : 264330137517

Option 1 ID : 264330538675

Option 2 ID : 264330538678

Option 3 ID : 264330538677

Option 4 ID : 264330538676

Status : Answered

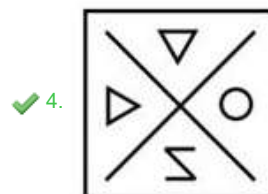
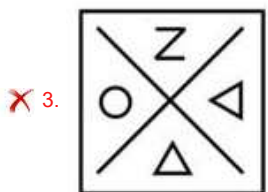
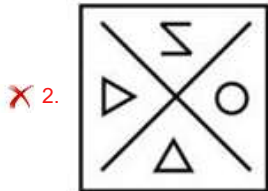
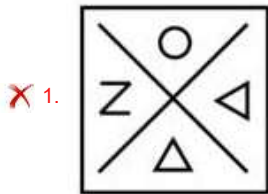
Chosen Option : 3

Q.5 दी गई आकृति के उस सही दर्पण प्रतिबिंब को चुनिए, जो दर्पण MN को नीचे दर्शाए गए अनुसार रखने पर बनेगा।



M N

Ans



Question Type : MCQ

Question ID : 264330137601

Option 1 ID : 264330539012

Option 2 ID : 264330539013

Option 3 ID : 264330539011

Option 4 ID : 264330539014

Status : Answered

Chosen Option : 4

Q.6 सात लड़के राहुल, राम, रमेश, सोहन, साहिल, सोनू और मोनू एक वृत्ताकार मेज के चारों ओर केंद्र की ओर मुख करके बैठे हैं (परंतु जरूरी नहीं कि वे इसी क्रम में बैठें हों)। मोनू, सोनू के बाईं ओर से दूसरे स्थान पर है। सोनू, राहुल के बाईं ओर से दूसरे स्थान पर है। साहिल, सोनू का निकटतम पड़ोसी नहीं है। साहिल, राम के दाईं ओर से तीसरे स्थान पर है। सोहन, रमेश के दाईं ओर से तीसरे स्थान पर है। राहुल के बाईं ओर से तीसरे स्थान पर कौन है?

Ans ✗ 1. राम

✓ 2. सोहन

✗ 3. रमेश

✗ 4. साहिल

Question Type : MCQ

Question ID : 264330137523

Option 1 ID : 264330538701

Option 2 ID : 264330538702

Option 3 ID : 264330538699

Option 4 ID : 264330538700

Status : Answered

Chosen Option : 1

Q.7 उस विकल्प को चुनिए जिसमें समुच्चय की संख्याएँ वही संबंध साझा करती हैं जो दिए गए समुच्चय में संख्याओं द्वारा साझा किया जाता है। (ध्यान दें: संख्याओं को उनके घटक अंकों में अलग-अलग किए बिना, पूर्ण संख्याओं पर संक्रियाएँ की जानी चाहिए। उदा. 13 - 13 पर संक्रियाएँ जैसे 13 को जोड़ना /घटाना /गुणा करना आदि किया जा सकता है। 13 को 1 और 3 में अलग-अलग करने की और फिर 1 और 3 पर गणितीय संक्रियाएँ करने की अनुमति नहीं है)

(243, 81, 27)

(99, 33, 11)

- Ans**
- 1. (27, 25, 23)
 - 2. (27, 20, 19)
 - 3. (27, 18, 9)
 - 4. (27, 9, 3)

Question Type : **MCQ**

Question ID : **264330137531**

Option 1 ID : **264330538733**

Option 2 ID : **264330538734**

Option 3 ID : **264330538731**

Option 4 ID : **264330538732**

Status : **Answered**

Chosen Option : **4**

Q.8 आठ सहेलियाँ मानसी, श्वेता, मोनिका, पायल, आरती, काजल, लक्ष्मी और रानी एक वृत्ताकार मेज के चारों ओर केंद्र की ओर मुख करके बैठी हैं (परंतु जरूरी नहीं कि वे इसी क्रम में बैठी हों)। मोनिका, काजल के दाईं ओर से दूसरे स्थान पर है। काजल, श्वेता के दाईं ओर से तीसरे स्थान पर है। पायल, श्वेता के ठीक बाईं ओर है। श्वेता, आरती के बाईं ओर से दूसरे स्थान पर है। लक्ष्मी, श्वेता के दाईं ओर से चौथे स्थान पर है। मानसी, श्वेता और आरती दोनों की निकटतम पड़ोसी है। मानसी के दाईं ओर से दूसरे स्थान पर कौन है?

- Ans**
- 1. लक्ष्मी
 - 2. काजल
 - 3. आरती
 - 4. रानी

Question Type : **MCQ**

Question ID : **264330137524**

Option 1 ID : **264330538703**

Option 2 ID : **264330538706**

Option 3 ID : **264330538704**

Option 4 ID : **264330538705**

Status : **Answered**

Chosen Option : **2**

Q.9 किसी एक खास कूट भाषा में, 'MOTION' को '136435' लिखा जाता है और 'ONION' को '35435' लिखा जाता है। उस कूट भाषा में 'NOTION' को कैसे लिखा जाएगा?

- Ans**
- 1. 352637
 - 2. 536435
 - 3. 534354
 - 4. 362434

Question Type : **MCQ**

Question ID : **264330133371**

Option 1 ID : **264330522517**

Option 2 ID : **264330522515**

Option 3 ID : **264330522516**

Option 4 ID : **264330522518**

Status : **Answered**

Chosen Option : **2**

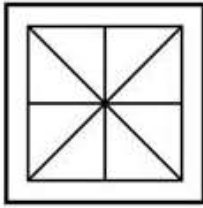
Q.10 उस विकल्प आकृति को चुनिए जिसमें दी गई आकृति (X) उसके भाग के रूप में निहित है (घूर्णन की अनुमति नहीं है)।



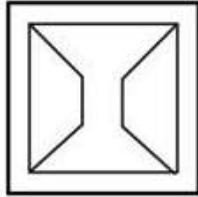
X

Ans

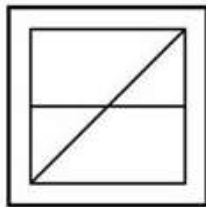
✓ 1.




✗ 2.



✗ 3.



✗ 4.



Question Type : MCQ

Question ID : 264330137600

Option 1 ID : 264330539010

Option 2 ID : 264330539007


Option 3 ID : 264330539009

Option 4 ID : 264330539008

Status : Answered

Chosen Option : 1

Q.11 कौन-सी उत्तर आकृति प्रश्न आकृति में दिए गए पैटर्न को पूरा करेगी?



Ans



Question Type : MCQ

Question ID : 264330137536

Option 1 ID : 264330538751

Option 2 ID : 264330538752

Option 3 ID : 264330538753

Option 4 ID : 264330538754

Status : Answered

Chosen Option : 3

Q.12 निम्नलिखित प्रश्न में कुछ कथन दिए गए हैं और उन कथनों के आधार पर कुछ निष्कर्ष दिए गए हैं। आपको यह मानना है कि दिए गए कथन सत्य हैं चाहे वे सामान्यतः ज्ञात तथ्यों से अलग प्रतीत होते हों। सभी निष्कर्षों को पढ़िए और फिर निश्चय कीजिए कि दिए गए निष्कर्षों में से कौन-सा निष्कर्ष तार्किक रूप से दिए गए कथनों के अनुसार है।

कथन:

- I. कुछ लड़के, ताकतवर हैं।
- II कोई ताकतवर, कमजोर नहीं है।

निष्कर्ष:

- I. सभी ताकतवर, लड़के हैं।
- II सभी कमजोर, लड़के हैं।
- III सभी कमजोर, ताकतवर हैं।

Ans

- 1. सभी निष्कर्ष कथनों के अनुसार हैं
- 2. कोई भी निष्कर्ष कथनों के अनुसार नहीं है
- 3. दोनों निष्कर्ष I और III कथनों के अनुसार हैं
- 4. दोनों निष्कर्ष II और III कथनों के अनुसार हैं

Question Type : MCQ

Question ID : 264330137527

Option 1 ID : 264330538717

Option 2 ID : 264330538718

Option 3 ID : 264330538715

Option 4 ID : 264330538716

Status : Answered

Chosen Option : 2

Q.13 निम्नलिखित प्रश्न में, दी गई श्रृंखला में लुप्त संख्या को चुनिए।

0, 20, 40, 60, 80, ?

Ans

- 1. 110
- 2. 120
- 3. 100
- 4. 90

Question Type : MCQ

Question ID : 264330138468

Option 1 ID : 264330542480

Option 2 ID : 264330542482

Option 3 ID : 264330542479

Option 4 ID : 264330542481

Status : Answered

Chosen Option : 3

Q.14 उस विकल्प को चुनिए जो छठी संख्या से ठीक उसी प्रकार संबंधित है जिस प्रकार पहली संख्या दूसरी संख्या से संबंधित है और तीसरी संख्या चौथी संख्या से संबंधित है।

4 : 66 :: 8 : 514 :: ? : 345

- Ans
- 1. 8
 - 2. 11
 - 3. 9
 - 4. 7

Question Type : MCQ

Question ID : 264330138470

Option 1 ID : 264330542489

Option 2 ID : 264330542487

Option 3 ID : 264330542488

Option 4 ID : 264330542490

Status : Answered

Chosen Option : 4

Q.15 निम्नलिखित प्रश्न में कुछ कथन दिए गए हैं और उन कथनों के आधार पर कुछ निष्कर्ष दिए गए हैं। आपको यह मानना है कि दिए गए कथन सत्य हैं चाहे वे सामान्यतः ज्ञात तथ्यों से अलग प्रतीत होते हों। सभी निष्कर्षों को पढ़िए और फिर निश्चय कीजिए कि दिए गए निष्कर्षों में से कौन-सा निष्कर्ष तार्किक रूप से दिए गए कथनों के अनुसार है।

कथन:

I. सभी B, M हैं।

II कुछ J, B हैं।

निष्कर्ष:

I. कुछ M, B नहीं हैं।

II कोई J, M नहीं है।

- Ans
- 1. केवल निष्कर्ष I कथनों के अनुसार है
 - 2. केवल निष्कर्ष II कथनों के अनुसार है
 - 3. कोई भी निष्कर्ष कथनों के अनुसार नहीं है
 - 4. दोनों निष्कर्ष I और II कथनों के अनुसार हैं

Question Type : MCQ

Question ID : 264330137526

Option 1 ID : 264330538711

Option 2 ID : 264330538712

Option 3 ID : 264330538714

Option 4 ID : 264330538713

Status : Answered

Chosen Option : 3

Q.16 एक श्रृंखला दी गई है जिसमें एक पद लुप्त है। दिए गए विकल्पों में से उस सही विकल्प को चुनिए जो श्रृंखला को पूरा करेगा।

FANY, JERC, NIVG, ?, VQDO

- Ans
- 1. RMYK
 - 2. RNYK
 - 3. RMMK
 - 4. RMZK

Question Type : MCQ

Question ID : 264330137515

Option 1 ID : 264330538667

Option 2 ID : 264330538669

Option 3 ID : 264330538668

Option 4 ID : 264330538670

Status : Answered

Chosen Option : 4

Q.17 एक निश्चित कूट भाषा में, 'PADM' को '5372' लिखा जाता है, 'AZDB' को '7209' लिखा जाता है, 'BALL' को '9766' लिखा जाता है। उस कूट भाषा में 'M' को कैसे लिखा जाएगा?

- Ans
- 1. 7
 - 2. 9
 - 3. 2
 - 4. 5

Question Type : MCQ

Question ID : 264330138566

Option 1 ID : 264330542874

Option 2 ID : 264330542873

Option 3 ID : 264330542872

Option 4 ID : 264330542871

Status : Answered

Chosen Option : 3

Q.18 निम्नलिखित प्रश्न में, दी गई श्रृंखला में लुप्त संख्या चुनिए।

30, 91, 274, 823, 2470, ?

- Ans
- 1. 7420
 - 2. 4580
 - 3. 7400
 - 4. 7411

Question Type : MCQ

Question ID : 264330137529

Option 1 ID : 264330538726

Option 2 ID : 264330538725

Option 3 ID : 264330538723

Option 4 ID : 264330538724

Status : Answered

Chosen Option : 4

Q.19 विवेक, लक्ष्मण, कमल, मोहन और रमेश नाम की पाँच कारों की चाल की तुलना की जाती है। विवेक की चाल केवल एक कार से अधिक है। रमेश की चाल, चार कारों से अधिक है। मोहन की चाल विवेक से अधिक लेकिन कमल और रमेश से कम है। कितनी कारों की चाल मोहन की चाल से कम है?

- Ans
- 1. 0
 - 2. 2
 - 3. 3
 - 4. 1

Question Type : MCQ
Question ID : 264330137525
Option 1 ID : 264330538710
Option 2 ID : 264330538707
Option 3 ID : 264330538708
Option 4 ID : 264330538709
Status : Answered
Chosen Option : 2

Q.20 एक निश्चित कूट भाषा में, 'SQUARE' को 'UQSER' लिखा जाता है। उस भाषा में 'CAREER' को कैसे लिखा जाएगा?

- Ans
- 1. RCAREE
 - 2. RACREE
 - 3. EERACR
 - 4. RACERE

Question Type : MCQ
Question ID : 264330134958
Option 1 ID : 264330528769
Option 2 ID : 264330528767
Option 3 ID : 264330528768
Option 4 ID : 264330528770
Status : Answered
Chosen Option : 2

Section : General Awareness

Q.1 विशेष रूप से निर्मित पोखरों और तालाबों में मत्स्यपालन को _____ कहते हैं।

- Ans
- 1. विटिकल्चर (द्राक्षा कृषि)
 - 2. पिंसीकल्चर (मत्स्यपालन)
 - 3. सेरीकल्चर (रेशम उत्पादन)
 - 4. हॉर्टीकल्चर (उद्यान कृषि)

Question Type : MCQ
Question ID : 264330133873
Option 1 ID : 264330524516
Option 2 ID : 264330524517
Option 3 ID : 264330524515
Option 4 ID : 264330524518
Status : Answered
Chosen Option : 2

Q.2 शीतकालीन ओलंपिक खेल कितने वर्षों में आयोजित किए जाते हैं?

- Ans
- 1. हर पाँच वर्ष में
 - 2. हर तीन वर्ष में
 - 3. हर दो वर्ष में
 - 4. हर चार वर्ष में

Question Type : MCQ
Question ID : 264330137708
Option 1 ID : 264330539441
Option 2 ID : 264330539439
Option 3 ID : 264330539440
Option 4 ID : 264330539442
Status : Answered
Chosen Option : 3

Q.3 अटल पेंशन योजना (Atal Pension Yojana) के तहत, पेंशन रिटर्न, ग्राहक के (subscriber) _____ वर्ष का हो जाने के बाद दिया जाता है।

- Ans
- 1. 55
 - 2. 60
 - 3. 65
 - 4. 50

Question Type : MCQ
Question ID : 264330137686
Option 1 ID : 264330539352
Option 2 ID : 264330539354
Option 3 ID : 264330539351
Option 4 ID : 264330539353
Status : Not Answered
Chosen Option : --

Q.4 निम्नलिखित में से कौन-सी पादप कोशिका की एक विशेषता है?

- Ans
- 1. लवक अनुपस्थित होता है
 - 2. हरितलवक अनुपस्थित होता है
 - 3. छोटी केंद्रीय रसधानी
 - 4. इनमें कोशिका भित्ति पाई जाती है

Question Type : MCQ
Question ID : 264330137692
Option 1 ID : 264330539376
Option 2 ID : 264330539378
Option 3 ID : 264330539377
Option 4 ID : 264330539375
Status : Answered
Chosen Option : 4

Q.5 _____ वह प्रक्रिया है जिसमें प्राकृतिक रबर को अधिक मजबूत (durable) और लोचदार (elastic) बनाने के लिए सल्फर के साथ संसाधित किया जाता है।

- Ans
- 1. किण्वन (Fermentation)
 - 2. कार्बनीकरण (Carbonation)
 - 3. साबुनीकरण (Saponification)
 - 4. वल्कनीकरण (Vulcanisation)

Question Type : MCQ
Question ID : 264330138226
Option 1 ID : 264330541513
Option 2 ID : 264330541514
Option 3 ID : 264330541511
Option 4 ID : 264330541512
Status : Answered
Chosen Option : 4

Q.6 गारो जनजाति का संबंध भारत के किस क्षेत्र से है?

- Ans
- 1. दक्षिण पश्चिमी
 - 2. दक्षिणी
 - 3. पश्चिमी
 - 4. उत्तर पूर्वी

Question Type : MCQ
Question ID : 264330138266
Option 1 ID : 264330541673
Option 2 ID : 264330541672
Option 3 ID : 264330541671
Option 4 ID : 264330541674
Status : Answered
Chosen Option : 4

Q.7 ऐसी वस्तुएँ जो टिकाऊ प्रकृति की होती हैं और जिनका उत्पादन प्रक्रिया में उपयोग होता है, _____ कहलाती हैं।

- Ans
- 1. उपभोग वस्तुएँ (consumption goods)
 - 2. पूरक वस्तुएँ (complementary goods)
 - 3. वेब्लेन वस्तुएँ (veblen goods)
 - 4. पूँजीगत वस्तुएँ (capital goods)

Question Type : MCQ
Question ID : 264330133866
Option 1 ID : 264330524488
Option 2 ID : 264330524487
Option 3 ID : 264330524489
Option 4 ID : 264330524490
Status : Answered
Chosen Option : 2

Q.8 भारत के मुख्य न्यायाधीश की नियुक्ति कौन करता है?

- Ans
- 1. सर्वोच्च न्यायालय के न्यायाधीश
 - 2. राष्ट्रपति
 - 3. प्रधानमंत्री
 - 4. उप-राष्ट्रपति

Question Type : MCQ
Question ID : 264330137707
Option 1 ID : 264330539437
Option 2 ID : 264330539436
Option 3 ID : 264330539435
Option 4 ID : 264330539438
Status : Answered
Chosen Option : 2

Q.9 "गुरुपुरब" किस सिख गुरु की जयंती के रूप में मनाया जाता है?

- Ans
- 1. गुरु गोबिंद सिंह
 - 2. गुरु नानक देव
 - 3. गुरु अंगद
 - 4. गुरु अर्जन देव

Question Type : MCQ
Question ID : 264330134595
Option 1 ID : 264330527335
Option 2 ID : 264330527338
Option 3 ID : 264330527337
Option 4 ID : 264330527336
Status : Answered
Chosen Option : 1

Q.10 स्वर्गीय सरोजिनी नायडू को कौनसी उपाधि दी गई थी?

- Ans
- 1. भारत की कोकिला
 - 2. भारत की चील
 - 3. भारत की गौरैया
 - 4. भारत की हॉर्नबिल

Question Type : MCQ
Question ID : 264330137704
Option 1 ID : 264330539424
Option 2 ID : 264330539425
Option 3 ID : 264330539423
Option 4 ID : 264330539426
Status : Answered
Chosen Option : 1

Q.11 ऋतुसंहार (Ritusamhara) या छः ऋतुएँ संस्कृत साहित्य की एक उत्कृष्ट कृति है, जिसे _____ ने लिखा है।

- Ans
- ✓ 1. कालिदास
 - ✗ 2. हरिषेण
 - ✗ 3. तुलसीदास
 - ✗ 4. रवि कीर्ति

Question Type : MCQ

Question ID : 264330133861

Option 1 ID : 264330524470

Option 2 ID : 264330524469

Option 3 ID : 264330524467

Option 4 ID : 264330524468

Status : Not Answered

Chosen Option : --

Q.12 निम्नलिखित में से कौन एक कैलेंडर वर्ष में 1,000 टी20 अंतर्राष्ट्रीय रन बनाने वाले पहले भारतीय खिलाड़ी बने?

- Ans
- ✗ 1. विराट कोहली
 - ✗ 2. रोहित शर्मा
 - ✓ 3. सूर्यकुमार यादव
 - ✗ 4. ऋषभ पंत

Question Type : MCQ

Question ID : 264330138244

Option 1 ID : 264330541584

Option 2 ID : 264330541583

Option 3 ID : 264330541586

Option 4 ID : 264330541585

Status : Not Answered

Chosen Option : --

Q.13 रुक्मिणी देवी अरुंडेल को वर्ष _____ में 'पद्म भूषण' से सम्मानित किया गया था।

- Ans
- ✗ 1. 1964
 - ✗ 2. 1978
 - ✓ 3. 1956
 - ✗ 4. 1987

Question Type : MCQ

Question ID : 264330133863

Option 1 ID : 264330524478

Option 2 ID : 264330524475

Option 3 ID : 264330524476

Option 4 ID : 264330524477

Status : Not Answered

Chosen Option : --

Q.14 वायु गर्म करने पर _____ होती है और ठंडा करने पर _____ होती है।

- Ans
- 1. संकुचित, प्रसारित
 - 2. संकुचित, स्थिर
 - 3. प्रसारित, प्रसारित
 - 4. प्रसारित, संकुचित

Question Type : MCQ

Question ID : 264330134609

Option 1 ID : 264330527392

Option 2 ID : 264330527391

Option 3 ID : 264330527393

Option 4 ID : 264330527394

Status : Answered

Chosen Option : 4

Q.15 _____ बेरोज़गारी उस न्यूनतम बेरोज़गारी स्तर को कहते हैं, जिसे एक स्वस्थ अर्थव्यवस्था, मुद्रास्फीति पैदा किए बिना बनाए रख सकती है।

- Ans
- 1. प्रतिरोधात्मक
 - 2. प्रच्छन्न
 - 3. संरचनात्मक
 - 4. प्राकृतिक

Question Type : MCQ

Question ID : 264330134656

Option 1 ID : 264330527580

Option 2 ID : 264330527582

Option 3 ID : 264330527581

Option 4 ID : 264330527579

Status : Not Answered

Chosen Option : --

Q.16 निम्नलिखित मुगल सम्राटों में से किसने पादशाह की उपाधि धारण की थी?

- Ans
- 1. जहाँगीर
 - 2. हुमायूँ
 - 3. अकबर
 - 4. बाबर

Question Type : MCQ

Question ID : 264330138235

Option 1 ID : 264330541550

Option 2 ID : 264330541548

Option 3 ID : 264330541549

Option 4 ID : 264330541547

Status : Not Answered

Chosen Option : --

Q.17 एनी बेसेंट निम्नलिखित में से किस सामाजिक-धार्मिक आंदोलन से जुड़ी थीं?

- Ans
- ✓ 1. थियोसोफिकल सोसाइटी (Theosophical Society)
 - ✗ 2. आदि ब्रह्म समाज (Adi Brahma Samaj)
 - ✗ 3. तत्वबोधिनी सभा (Tattvabodhini Sabha)
 - ✗ 4. भारतीय सुधार संघ (Indian Reform Association)

Question Type : MCQ
Question ID : 264330137777
Option 1 ID : 264330539717
Option 2 ID : 264330539716
Option 3 ID : 264330539715
Option 4 ID : 264330539718
Status : Answered
Chosen Option : 1

Q.18 एंसो (ENSO) दाब की अवस्था में परिवर्तन से संबंधित परिघटना है। ENSO का पूर्ण रूप क्या है?

- Ans
- ✗ 1. एल नीनो साउथ ओकेजन (El Nino South Occasion)
 - ✗ 2. एल नीना साउथ ऑसिलेशन्स (El Nina South Oscillations)
 - ✗ 3. एल नीना सदरन ओकेजन्स (El Nina Southern Occasions)
 - ✓ 4. एल नीनो सदरन ऑसिलेशन (El Nino Southern Oscillation)

Question Type : MCQ
Question ID : 264330138229
Option 1 ID : 264330541525
Option 2 ID : 264330541526
Option 3 ID : 264330541524
Option 4 ID : 264330541523
Status : Not Answered
Chosen Option : --

Q.19 निम्नलिखित में से कौन-सा अम्ल नारियल के तेल में पाया जाता है?

- Ans
- ✗ 1. ऑक्सैलिक अम्ल (Oxalic Acid)
 - ✗ 2. इरुसिक अम्ल (Erucic Acid)
 - ✓ 3. लॉरिक अम्ल (Lauric Acid)
 - ✗ 4. लैक्टिक अम्ल (Lactic Acid)

Question Type : MCQ
Question ID : 264330138228
Option 1 ID : 264330541520
Option 2 ID : 264330541521
Option 3 ID : 264330541519
Option 4 ID : 264330541522
Status : Not Answered
Chosen Option : --

Q.20 सिंधु घाटी सभ्यता में, लोथल शहर _____ की एक उपनदी के किनारे पर बसा था।

- Ans
- ✓ 1. साबरमती
 - ✗ 2. कृष्णा
 - ✗ 3. पेरियार
 - ✗ 4. नर्मदा

Question Type : MCQ

Question ID : 264330137774

Option 1 ID : 264330539704

Option 2 ID : 264330539703

Option 3 ID : 264330539705

Option 4 ID : 264330539706

Status : Not Answered

Chosen Option : --

Q.21 मोहिनीअट्टम किस राज्य का शास्त्रीय नृत्य है?

- Ans
- ✓ 1. केरल
 - ✗ 2. उड़ीसा
 - ✗ 3. तमिलनाडु
 - ✗ 4. कर्नाटक

Question Type : MCQ

Question ID : 264330137688

Option 1 ID : 264330539360

Option 2 ID : 264330539362

Option 3 ID : 264330539361

Option 4 ID : 264330539359

Status : Answered

Chosen Option : 1

Q.22 निम्नलिखित में से भारत के किस राज्य में छठ पूजा का त्योहार मुख्य रूप से मनाया जाता है?

- Ans
- ✗ 1. गुजरात
 - ✗ 2. राजस्थान
 - ✓ 3. बिहार
 - ✗ 4. आंध्रप्रदेश

Question Type : MCQ

Question ID : 264330137764

Option 1 ID : 264330539665

Option 2 ID : 264330539664

Option 3 ID : 264330539666

Option 4 ID : 264330539663

Status : Answered

Chosen Option : 3

Q.23 सर्वाधिक व्यक्तिगत ओलंपिक स्वर्ण पदक किसने जीते हैं?

- Ans
- ✓ 1. माइकल फेल्प्स (Michael Phelps)
 - ✗ 2. सिमोन बाइल्स (Simone Biles)
 - ✗ 3. केटी लेडेकी (Katie Ledecky)
 - ✗ 4. उसैन बोल्ट (Usain Bolt)

Question Type : MCQ

Question ID : 264330134598

Option 1 ID : 264330527347

Option 2 ID : 264330527350

Option 3 ID : 264330527349

Option 4 ID : 264330527348

Status : Not Answered

Chosen Option : --

Q.24 निम्नलिखित में से कौन-सा भारतीय संविधान के अंतर्गत वर्णित एक मौलिक कर्तव्य है?

- Ans
- ✓ 1. देश की रक्षा करना
 - ✗ 2. निजी संपत्ति की सुरक्षा करना
 - ✗ 3. प्रतिष्ठा की रक्षा करना
 - ✗ 4. धार्मिक मामलों का प्रबंधन करना

Question Type : MCQ

Question ID : 264330137706

Option 1 ID : 264330539433

Option 2 ID : 264330539432

Option 3 ID : 264330539431

Option 4 ID : 264330539434

Status : Answered

Chosen Option : 1

Q.25 भाखड़ा नांगल बाँध निम्नलिखित में से किस नदी पर बना है?

- Ans
- ✗ 1. ब्यास
 - ✗ 2. चिनाब
 - ✗ 3. रावी
 - ✓ 4. सतलुज

Question Type : MCQ

Question ID : 264330137696

Option 1 ID : 264330539394

Option 2 ID : 264330539391

Option 3 ID : 264330539392

Option 4 ID : 264330539393

Status : Answered

Chosen Option : 4

Q.1 Choose the word that is opposite in meaning to the given word.

Humble

- Ans
- 1. Diffident
 - 2. Passive
 - 3. Assertive
 - 4. Votary

Question Type : MCQ
Question ID : 264330134737
Option 1 ID : 264330527902
Option 2 ID : 264330527900
Option 3 ID : 264330527899
Option 4 ID : 264330527901
Status : Answered
Chosen Option : 3

Q.2 Find the part of the given sentence that has an error in it. If there is no error, choose 'No error'.

Your success were short-lived and had disastrous outcomes.

- Ans
- 1. short-lived and
 - 2. had disastrous outcomes.
 - 3. Your success were
 - 4. No error

Question Type : MCQ
Question ID : 264330134424
Option 1 ID : 264330526672
Option 2 ID : 264330526673
Option 3 ID : 264330526671
Option 4 ID : 264330526674
Status : Answered
Chosen Option : 3

Q.3 Select the most appropriate word for the given group of words.

An adventurous or bold person

- Ans
- 1. Debonair
 - 2. Judgemental
 - 3. Foolhardy
 - 4. Assaultive

Question Type : MCQ
Question ID : 264330136601
Option 1 ID : 264330535134
Option 2 ID : 264330535133
Option 3 ID : 264330535131
Option 4 ID : 264330535132
Status : Answered
Chosen Option : 2

Q.4 Select the most appropriate option to fill in the blank.

Fetal _____ screening uses ultrasound scanning to find certain abnormalities in the baby.

- Ans**
- 1. enfevering
 - 2. abeyance
 - 3. snuggle
 - 4. anomaly

Question Type : **MCQ**

Question ID : **264330136037**

Option 1 ID : **264330532970**

Option 2 ID : **264330532968**

Option 3 ID : **264330532967**

Option 4 ID : **264330532969**

Status : **Not Answered**

Chosen Option : --

Q.5 Select the most appropriate option to fill in the blank.

For years, people afflicted with the itchy skin condition used stinky coal tar derivatives to _____ their symptoms.

- Ans**
- 1. refer
 - 2. deviate
 - 3. obviate
 - 4. alleviate

Question Type : **MCQ**

Question ID : **264330136298**

Option 1 ID : **264330533971**

Option 2 ID : **264330533974**

Option 3 ID : **264330533973**

Option 4 ID : **264330533972**

Status : **Answered**

Chosen Option : **3**

Q.6 Select the most appropriate option to substitute the bracketed segment in the given sentence. If there is no need to substitute it, select 'no substitution required'.

(No sooner had the ink dried on last week's column, that) one of my long-suffering 17 readers was into action.

- Ans**
- 1. No substitution required
 - 2. No sooner did the ink dried on last week's column, than
 - 3. No sooner had the ink dry on last week's column, than
 - 4. No sooner had the ink dried on last week's column, than

Question Type : **MCQ**

Question ID : **264330136062**

Option 1 ID : **264330533066**

Option 2 ID : **264330533063**

Option 3 ID : **264330533064**

Option 4 ID : **264330533065**

Status : **Answered**

Chosen Option : **4**

Q.7 Select the most appropriate meaning of the given idiom.

It takes two to tango

- Ans
- 1. To fight fiercely
 - 2. An interesting idea
 - 3. For an argument both parties are equally responsible
 - 4. Two people are required for a couple dance

Question Type : MCQ
Question ID : 264330136607
Option 1 ID : 264330535158
Option 2 ID : 264330535156
Option 3 ID : 264330535157
Option 4 ID : 264330535155
Status : Answered
Chosen Option : 4

Q.8 Improve the underlined part of the sentence. Choose 'No improvement' as an answer if the sentence is grammatically correct.

Training your dog have required a lot of patience.

- Ans
- 1. No improvement
 - 2. required lot
 - 3. requires a lot
 - 4. require the lot

Question Type : MCQ
Question ID : 264330134748
Option 1 ID : 264330527946
Option 2 ID : 264330527944
Option 3 ID : 264330527943
Option 4 ID : 264330527945
Status : Answered
Chosen Option : 1

Q.9 Select the most appropriate option to fill in the blank.

The respondents were very agile and _____ in subduing the situation.

- Ans
- 1. hassled
 - 2. quick
 - 3. tedious
 - 4. tasty

Question Type : MCQ
Question ID : 264330136237
Option 1 ID : 264330533735
Option 2 ID : 264330533737
Option 3 ID : 264330533738
Option 4 ID : 264330533736
Status : Answered
Chosen Option : 2

Q.10 Select the most appropriate meaning of the bracketed idiom in the given sentence.

The last observation of yours has (hit the nail on the head).

- Ans**
- 1. A personal interest in the matter
 - 2. To have no idea about anything
 - 3. To hear rumours
 - 4. Find exactly the right answer

Question Type : **MCQ**

Question ID : **264330136052**

Option 1 ID : **264330533026**

Option 2 ID : **264330533023**

Option 3 ID : **264330533024**

Option 4 ID : **264330533025**

Status : **Answered**

Chosen Option : **4**

Q.11 Identify the segment that contains a grammatical error. If there is no error, select 'No error'.

Unadulterated and unabashed were/ the two words that the judge use/ to define his performance.

- Ans**
- 1. the two words that the judge use
 - 2. Unadulterated and unabashed were
 - 3. No error
 - 4. to define his performance.

Question Type : **MCQ**

Question ID : **264330136033**

Option 1 ID : **264330532952**

Option 2 ID : **264330532951**

Option 3 ID : **264330532954**

Option 4 ID : **264330532953**

Status : **Answered**

Chosen Option : **1**

Q.12 Select the word from the options which is similar in meaning to the bracketed part given in the sentence below.

He has been used as the (fall guy) for issues with housing and unemployment.

- Ans**
- 1. weakling
 - 2. reticent
 - 3. scapegoat
 - 4. confiscate

Question Type : **MCQ**

Question ID : **264330136256**

Option 1 ID : **264330533808**

Option 2 ID : **264330533807**

Option 3 ID : **264330533809**

Option 4 ID : **264330533810**

Status : **Answered**

Chosen Option : **3**

Q.13 Select the word segment that substitutes (replaces) the bracketed word segment correctly and completes the sentence meaningfully. Select the option 'no correction required' if the sentence is correct as given.

The (captain with the members of his team) failed to qualify for the African Nations Cup finals.

- Ans**
- 1. captain along with the members of his team
 - 2. captain along side the members of his team
 - 3. No correction required
 - 4. captain and his team

Question Type : **MCQ**
Question ID : **264330136617**
Option 1 ID : **264330535195**
Option 2 ID : **264330535197**
Option 3 ID : **264330535198**
Option 4 ID : **264330535196**
Status : **Answered**
Chosen Option : **1**

Q.14 Select the most appropriate synonym of the given word.

Decapitate

- Ans**
- 1. Desolation
 - 2. Affection
 - 3. Behead
 - 4. Sincerity

Question Type : **MCQ**
Question ID : **264330136047**
Option 1 ID : **264330533004**
Option 2 ID : **264330533005**
Option 3 ID : **264330533003**
Option 4 ID : **264330533006**
Status : **Not Answered**
Chosen Option : **--**

Q.15 Select the wrongly spelt word.

- Ans**
- 1. equivocate
 - 2. enigma
 - 3. effigy
 - 4. expereince

Question Type : **MCQ**
Question ID : **264330136236**
Option 1 ID : **264330533733**
Option 2 ID : **264330533732**
Option 3 ID : **264330533734**
Option 4 ID : **264330533731**
Status : **Answered**
Chosen Option : **4**

Q.16 Select the most appropriate option to fill in the blank.

The question is why an _____ Hollywood film should provoke such a hostile reaction.

- Ans**
- 1. innocuous
 - 2. obstinate
 - 3. erroneous
 - 4. elicit

Question Type : **MCQ**
Question ID : **264330136056**
Option 1 ID : **264330533039**
Option 2 ID : **264330533042**
Option 3 ID : **264330533041**
Option 4 ID : **264330533040**
Status : **Answered**
Chosen Option : **1**

Q.17 Select the most appropriate antonym to substitute the bracketed word in the given sentence.

An (unsullied) safety record swelled pride in Concorde's technical achievement as the years passed.

- Ans**
- 1. Perfect
 - 2. Tarnished
 - 3. Undefined
 - 4. Impeccable

Question Type : **MCQ**
Question ID : **264330136050**
Option 1 ID : **264330533015**
Option 2 ID : **264330533018**
Option 3 ID : **264330533016**
Option 4 ID : **264330533017**
Status : **Not Answered**
Chosen Option : **--**

Q.18 Identify the segment that contains a grammatical error. If there is no error, select 'No error'.

The kids there were so notorious, the / more I asked them to quiet down, / the more loud they would scream.

- Ans**
- 1. The kids there were so notorious, the
 - 2. No error
 - 3. more I asked them to quiet down,
 - 4. the more loud they would scream.

Question Type : **MCQ**
Question ID : **264330136614**
Option 1 ID : **264330535183**
Option 2 ID : **264330535186**
Option 3 ID : **264330535184**
Option 4 ID : **264330535185**
Status : **Answered**
Chosen Option : **4**

Q.19 Select the correctly spelt word.

- Ans 1. Definition
 2. Deifinatn
 3. Defination
 4. Definasion

Question Type : MCQ
Question ID : 264330136053
Option 1 ID : 264330533029
Option 2 ID : 264330533027
Option 3 ID : 264330533028
Option 4 ID : 264330533030
Status : Answered
Chosen Option : 3

Q.20 Select the most appropriate word for the given group of words.

In exactly the same words as were used originally

- Ans 1. Lunatic
 2. Kennel
 3. Misanthrope
 4. Verbatim

Question Type : MCQ
Question ID : 264330136046
Option 1 ID : 264330533001
Option 2 ID : 264330533002
Option 3 ID : 264330533000
Option 4 ID : 264330532999
Status : Answered
Chosen Option : 4

Comprehension:

In the following passage some of the words have been deleted. Read the passage carefully and select the correct answer for the given blank out of the four alternatives.

Snail slime is made (1)_____ a mixture of substances. It is mostly water (2)_____ with proteins and some carbohydrates and minerals, (3)_____ into a sort of jelly. This jelly is (4)_____ "mucus". It's not that different to the snot that comes out of your nose when you have a (5)_____.

SubQuestion No : 21

Q.21 Select the most appropriate option to fill in blank number 1.

- Ans 1. of
 2. for
 3. upon
 4. up

Question Type : MCQ
Question ID : 264330134728
Option 1 ID : 264330527863
Option 2 ID : 264330527865
Option 3 ID : 264330527866
Option 4 ID : 264330527864
Status : Answered
Chosen Option : 1

Comprehension:

In the following passage some of the words have been deleted. Read the passage carefully and select the correct answer for the given blank out of the four alternatives.

Snail slime is made (1)_____ a mixture of substances. It is mostly water (2)_____ with proteins and some carbohydrates and minerals, (3)_____ into a sort of jelly. This jelly is (4)_____ "mucus". It's not that different to the snot that comes out of your nose when you have a (5)_____.

SubQuestion No : 22

Q.22 Select the most appropriate option to fill in blank number 2.

- Ans
- 1. sliced
 - 2. rotated
 - 3. diced
 - 4. mixed

Question Type : **MCQ**

Question ID : **264330134729**

Option 1 ID : **264330527868**

Option 2 ID : **264330527870**

Option 3 ID : **264330527869**

Option 4 ID : **264330527867**

Status : **Answered**

Chosen Option : **4**

Comprehension:

In the following passage some of the words have been deleted. Read the passage carefully and select the correct answer for the given blank out of the four alternatives.

Snail slime is made (1)_____ a mixture of substances. It is mostly water (2)_____ with proteins and some carbohydrates and minerals, (3)_____ into a sort of jelly. This jelly is (4)_____ "mucus". It's not that different to the snot that comes out of your nose when you have a (5)_____.

SubQuestion No : 23

Q.23 Select the most appropriate option to fill in blank number 3.

- Ans
- 1. tamed
 - 2. formed
 - 3. framed
 - 4. moved

Question Type : **MCQ**

Question ID : **264330134730**

Option 1 ID : **264330527874**

Option 2 ID : **264330527872**

Option 3 ID : **264330527873**

Option 4 ID : **264330527871**

Status : **Answered**

Chosen Option : **2**

Comprehension:

In the following passage some of the words have been deleted. Read the passage carefully and select the correct answer for the given blank out of the four alternatives.

Snail slime is made (1)_____ a mixture of substances. It is mostly water (2)_____ with proteins and some carbohydrates and minerals, (3)_____ into a sort of jelly. This jelly is (4)_____ "mucus". It's not that different to the snot that comes out of your nose when you have a (5)_____.

SubQuestion No : 24

Q.24 Select the most appropriate option to fill in blank number 4.

- Ans**
- 1. hailed
 - 2. stepped
 - 3. called
 - 4. deemed

Question Type : **MCQ**

Question ID : **264330134731**

Option 1 ID : **264330527877**

Option 2 ID : **264330527878**

Option 3 ID : **264330527876**

Option 4 ID : **264330527875**

Status : **Answered**

Chosen Option : **3**

Comprehension:

In the following passage some of the words have been deleted. Read the passage carefully and select the correct answer for the given blank out of the four alternatives.

Snail slime is made (1)_____ a mixture of substances. It is mostly water (2)_____ with proteins and some carbohydrates and minerals, (3)_____ into a sort of jelly. This jelly is (4)_____ "mucus". It's not that different to the snot that comes out of your nose when you have a (5)_____.

SubQuestion No : 25

Q.25 Select the most appropriate option to fill in blank number 5.

- Ans**
- 1. bug
 - 2. plague
 - 3. cold
 - 4. complaint

Question Type : **MCQ**

Question ID : **264330134732**

Option 1 ID : **264330527882**

Option 2 ID : **264330527879**

Option 3 ID : **264330527881**

Option 4 ID : **264330527880**

Status : **Answered**

Chosen Option : **3**

Multi Tasking Non Technical Staff and Havaladar CBIC and CBN Examination 2022

Roll Number	KD Job Updates
Candidate Name	KD Job Updates
Venue Name	Aurobindo International School Jaipur
Exam Date	12/05/2023
Exam Time	3:30 PM - 5:00 PM
Subject	MTS Non Tech Havaladar CBIC and CBN Examination 2022

Section : Numerical and Mathematical Ability

Q.1 $5 \times 4 + (3 + 4)^2 \div 7 \times 4$ का मान ज्ञात कीजिए।

- Ans
- 1. 49
 - 2. 47
 - 3. 48
 - 4. 46

Question Type : MCQ
Question ID : 264330138089
Option 1 ID : 264330540964
Option 2 ID : 264330540965
Option 3 ID : 264330540963
Option 4 ID : 264330540966
Status : Answered
Chosen Option : 3

Q.2 5 क्रमागत प्राकृत संख्याओं का औसत 43 है। इनमें से सबसे बड़ी संख्या है:

- Ans
- 1. 46
 - 2. 43
 - 3. 41
 - 4. 45

Question Type : MCQ
Question ID : 264330138092
Option 1 ID : 264330540978
Option 2 ID : 264330540976
Option 3 ID : 264330540975
Option 4 ID : 264330540977
Status : Answered
Chosen Option : 4

Q.3 एक बस पहले 100 km की दूरी 100 km/hr की चाल से तय करती है। वह अगले 150 km की दूरी 90 km/hr की चाल से तय करती है। बस की औसत चाल क्या है?

- Ans
- 1. 100.25 km/hr
 - 2. 156.25 km/hr
 - 3. 93.75 km/hr
 - 4. 120.50 km/hr

Question Type : MCQ

Question ID : 264330141007

Option 1 ID : 264330552375

Option 2 ID : 264330552376

Option 3 ID : 264330552377

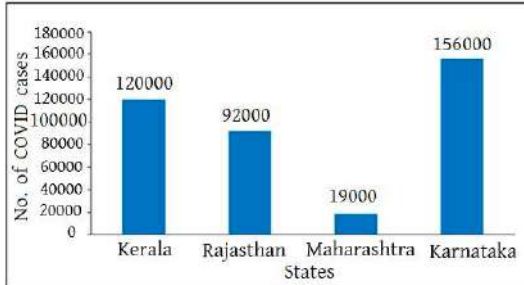
Option 4 ID : 264330552378

Status : Answered

Chosen Option : 3

Q.4 निम्नलिखित दंड आलेख में वर्ष 2022 में भारत के चार राज्यों में कोविड (COVID) के मामलों की संख्या को दर्शाया गया है।

केरल की तुलना में कर्नाटक में कितने प्रतिशत अधिक मामले हैं?



No. of COVID cases = कोविड (COVID) के मामलों की संख्या

Kerala = केरल, Rajasthan = राजस्थान, Maharashtra = महाराष्ट्र, Karnataka = कर्नाटक

States = राज्य

- Ans
- 1. 30%
 - 2. 20%
 - 3. 40%
 - 4. 50%

Question Type : MCQ

Question ID : 264330138106

Option 1 ID : 264330541033

Option 2 ID : 264330541031

Option 3 ID : 264330541032

Option 4 ID : 264330541034

Status : Answered

Chosen Option : 1

Q.5 यदि दो बेलनों के आयतनों का अनुपात 6 : 5 है और उनकी ऊँचाई का अनुपात 5 : 24 है, तो उनकी त्रिज्याओं का अनुपात क्या है?

- Ans
- ✓ 1. 12 : 5
 - ✗ 2. 12 : 7
 - ✗ 3. 5 : 6
 - ✗ 4. 1 : 2

Question Type : MCQ
Question ID : 264330137638
Option 1 ID : 264330539160
Option 2 ID : 264330539159
Option 3 ID : 264330539161
Option 4 ID : 264330539162
Status : Answered
Chosen Option : 1

Q.6 Rs.1200 को X, Y और Z में इस प्रकार बाँटा जाता है कि Y का हिस्सा X के हिस्से से Rs.200 अधिक है। Y का हिस्सा Z के हिस्से से Rs.200 कम है। Y का हिस्सा है:

- Ans
- ✗ 1. Rs.600
 - ✗ 2. Rs.800
 - ✓ 3. Rs.400
 - ✗ 4. Rs.200

Question Type : MCQ
Question ID : 264330138099
Option 1 ID : 264330541003
Option 2 ID : 264330541006
Option 3 ID : 264330541004
Option 4 ID : 264330541005
Status : Answered
Chosen Option : 1

Q.7 हर्षिता एक कपड़े की दुकान पर गई। दुकान पर Rs.2999 अंकित मूल्य वाली एक ड्रेस 20% बड़े पर बेची जा रही है। यदि हर्षिता ड्रेस खरीदती है, तो वह उसके लिए कितना भुगतान करेगी?

- Ans
- ✗ 1. Rs.2199.80
 - ✗ 2. Rs.2699.50
 - ✓ 3. Rs.2399.20
 - ✗ 4. Rs.2899.40

Question Type : MCQ
Question ID : 264330138097
Option 1 ID : 264330540998
Option 2 ID : 264330540995
Option 3 ID : 264330540997
Option 4 ID : 264330540996
Status : Answered
Chosen Option : 3

Q.8 उस लम्ब वृत्तीय बेलन का पार्श्व पृष्ठीय क्षेत्रफल क्या होगा जिसके आधार की परिधि 22 cm है और जिसकी ऊँचाई इसकी त्रिज्या की चार गुनी है?

- Ans
- 1. 408 cm²
 - 2. 288 cm²
 - 3. 388 cm²
 - 4. 308 cm²

Question Type : MCQ

Question ID : 264330133692

Option 1 ID : 264330523792

Option 2 ID : 264330523793

Option 3 ID : 264330523794

Option 4 ID : 264330523791

Status : Answered

Chosen Option : 4

Q.9 Rs. 60000 की राशि पर 5 वर्षों के लिए 10% वार्षिक दर पर वार्षिक रूप से संयोजित चक्रवृद्धि ब्याज ज्ञात कीजिए।

- Ans
- 1. Rs.34563.12
 - 2. Rs.3456.87
 - 3. Rs.36630.60
 - 4. Rs.3254.98

Question Type : MCQ

Question ID : 264330133747

Option 1 ID : 264330524012

Option 2 ID : 264330524014

Option 3 ID : 264330524011

Option 4 ID : 264330524013

Status : Answered

Chosen Option : 3

Q.10 निम्न तालिका में अलग-अलग दुकानों में हास्य और काल्पनिक कथा साहित्य की पुस्तकों की बिक्री को दर्शाया गया है।

दुकान C द्वारा बेची गई कुल पुस्तकों और दुकान A द्वारा बेची गई कुल पुस्तकों का अनुपात ज्ञात कीजिए।

Shops	Comic Books	Fiction Books
A	200	150
B	250	200
C	350	300
D	400	200
E	450	500

shops - दुकानें, Comic Books - हास्य पुस्तकें, Fiction Books - काल्पनिक कथा साहित्य की पुस्तकें

- Ans
- 1. 11:7
 - 2. 13:7
 - 3. 11:13
 - 4. 13:5

Question Type : MCQ

Question ID : 264330138429

Option 1 ID : 264330542326

Option 2 ID : 264330542325

Option 3 ID : 264330542323

Option 4 ID : 264330542324

Status : Answered

Chosen Option : 2

Q.11 X लड़के किसी कार्य को 80 दिनों में कर सकते हैं। 2X लड़के उसी कार्य का आधा भाग कितने दिनों में करेंगे?

- Ans
- 1. 30 दिन
 - 2. 12 दिन
 - 3. 16 दिन
 - 4. 20 दिन

Question Type : MCQ

Question ID : 264330137623

Option 1 ID : 264330539100

Option 2 ID : 264330539101

Option 3 ID : 264330539102

Option 4 ID : 264330539099

Status : Answered

Chosen Option : 4

Q.12 एक कमरे में 36 महिलाएँ और 20 पुरुष हैं। उस कमरे में पुरुषों की कुल संख्या और व्यक्तियों की कुल संख्या का अनुपात कितना है?

- Ans
- 1. 14:11
 - 2. 5:11
 - 3. 5:13
 - 4. 5:14

Question Type : MCQ

Question ID : 264330138098

Option 1 ID : 264330541000

Option 2 ID : 264330540999

Option 3 ID : 264330541001

Option 4 ID : 264330541002

Status : Answered

Chosen Option : 4

Q.13 वह सबसे बड़ी संख्या कौन-सी है, जिससे 456 और 553 को भाग देने पर क्रमशः 6 और 3 शेषफल प्राप्त होता है?

- Ans
- 1. 10
 - 2. 30
 - 3. 50
 - 4. 5

Question Type : MCQ

Question ID : 264330141031

Option 1 ID : 264330552471

Option 2 ID : 264330552474

Option 3 ID : 264330552473

Option 4 ID : 264330552472

Status : Answered

Chosen Option : 3

Q.14 एक लड़का धारा के प्रतिकूल 12 km/hr और धारा के अनुकूल 23 km/hr की चाल से नाव चला सकता है। धारा की चाल क्या है?

- Ans
- 1. 3.5 km/hr
 - 2. 6.5 km/hr
 - 3. 4.5 km/hr
 - 4. 5.5 km/hr

Question Type : MCQ
Question ID : 264330138102
Option 1 ID : 264330541018
Option 2 ID : 264330541017
Option 3 ID : 264330541015
Option 4 ID : 264330541016
Status : Answered
Chosen Option : 4

Q.15 एक दुकानदार एक बक्सा बेचकर 5% का लाभ अर्जित करता है। अगले बक्से के लिए वह विक्रय मूल्य का दोगुना शुल्क लेता है। दूसरे बक्से पर लाभ प्रतिशत कितना है?

- Ans
- 1. 100%
 - 2. 200%
 - 3. 80%
 - 4. 110%

Question Type : MCQ
Question ID : 264330138096
Option 1 ID : 264330540993
Option 2 ID : 264330540992
Option 3 ID : 264330540994
Option 4 ID : 264330540991
Status : Answered
Chosen Option : 4

Q.16 एक गाँव की जनसंख्या 40% वार्षिक दर से घटती है। यदि 2 वर्ष पूर्व गाँव की जनसंख्या 15,000 थी, तो गाँव की वर्तमान जनसंख्या ज्ञात कीजिए?

- Ans
- 1. 4400
 - 2. 5400
 - 3. 3500
 - 4. 4450

Question Type : MCQ
Question ID : 264330133786
Option 1 ID : 264330524170
Option 2 ID : 264330524168
Option 3 ID : 264330524169
Option 4 ID : 264330524167
Status : Answered
Chosen Option : 2

Q.17 एक बाइक का मूल्य पिछले वर्ष Rs.7000 था। इस वर्ष उसके मूल्य में 10% की वृद्धि हुई। इस वर्ष बाइक का मूल्य क्या है?

- Ans
- 1. Rs. 7500
 - 2. Rs. 7600
 - 3. Rs. 7700
 - 4. Rs. 7400

Question Type : MCQ
Question ID : 264330133740
Option 1 ID : 264330523984
Option 2 ID : 264330523986
Option 3 ID : 264330523985
Option 4 ID : 264330523983
Status : Answered
Chosen Option : 3

Q.18 $144 \div 12 + 4^2 - 44 + 54 \div 3 \times 2$ का मान ज्ञात कीजिए।

- Ans
- 1. 30
 - 2. 20
 - 3. 15
 - 4. 5

Question Type : MCQ
Question ID : 264330138413
Option 1 ID : 264330542259
Option 2 ID : 264330542261
Option 3 ID : 264330542260
Option 4 ID : 264330542262
Status : Answered
Chosen Option : 2

Q.19 एक वस्तु का विक्रय मूल्य Rs.616 है। यदि हानि प्रतिशत 30 प्रतिशत है, तो वस्तु का क्रय मूल्य क्या है?

- Ans
- 1. Rs. 800
 - 2. Rs. 880
 - 3. Rs. 850
 - 4. Rs. 900

Question Type : MCQ
Question ID : 264330139062
Option 1 ID : 264330544855
Option 2 ID : 264330544857
Option 3 ID : 264330544856
Option 4 ID : 264330544858
Status : Answered
Chosen Option : 2

Q.20 X अकेले किसी काम को 15 दिनों में कर सकता है जबकि Y अकेले उसी काम को 10 दिनों में कर सकता है। उन्होंने 3 दिनों तक साथ मिलकर काम किया और शेष काम Z ने 1 दिन में पूरा किया। यदि उन्हें पूरे काम के लिए Rs.4000 का भुगतान किया जाता है, तो इसमें Z का हिस्सा कितना है?

- Ans**
- 1. Rs.1200
 - 2. Rs.1000
 - 3. Rs.800
 - 4. Rs.2000

Question Type : **MCQ**

Question ID : **264330133687**

Option 1 ID : **264330523773**

Option 2 ID : **264330523771**

Option 3 ID : **264330523774**

Option 4 ID : **264330523772**

Status : **Answered**

Chosen Option : **4**

Section : Reasoning Ability and Problem Solving

Q.1 एक निश्चित कूट भाषा में, 'DISPUTE' को 'SID16ETU' लिखा जाता है। उस कूट भाषा में 'FEATURE' को कैसे लिखा जाएगा?

- Ans**
- 1. AEF02ERU
 - 2. AEF20UER
 - 3. AEF20ERU
 - 4. AEF20REU

Question Type : **MCQ**

Question ID : **264330135025**

Option 1 ID : **264330529037**

Option 2 ID : **264330529038**

Option 3 ID : **264330529035**

Option 4 ID : **264330529036**

Status : **Answered**

Chosen Option : **3**

Q.2 दो कथन दिए गए हैं और दो निष्कर्ष I और II दिए गए हैं। कथनों को सत्य मानते हुए, चाहे वे सामान्यतः ज्ञात तथ्यों से अलग प्रतीत होते हों, निश्चय कीजिए कि कौन-सा निष्कर्ष तार्किक रूप से कथनों के अनुसार है।
कथन:

कुछ सेब, फल हैं।

सभी फल, आम हैं।

निष्कर्ष:

I. कुछ सेब, आम हैं।

II. सभी आम, फल हैं।

Ans

1. दोनों निष्कर्ष I और II कथनों के अनुसार हैं

2. केवल निष्कर्ष II कथनों के अनुसार है

3. केवल निष्कर्ष I कथनों के अनुसार है

4. न तो निष्कर्ष I और न ही II कथनों के अनुसार है

Question Type : **MCQ**

Question ID : **264330137863**

Option 1 ID : **264330540061**

Option 2 ID : **264330540060**

Option 3 ID : **264330540059**

Option 4 ID : **264330540062**

Status : **Answered**

Chosen Option : **3**

Q.3 दी गई श्रृंखला में निम्नलिखित में से कौन-सी संख्या प्रश्न चिन्ह (?) के स्थान पर आएगी?
55, 61, 67, 73, 79, ?

Ans

1. 93

2. 82

3. 94

4. 85

Question Type : **MCQ**

Question ID : **264330137866**

Option 1 ID : **264330540072**

Option 2 ID : **264330540073**

Option 3 ID : **264330540074**

Option 4 ID : **264330540071**

Status : **Answered**

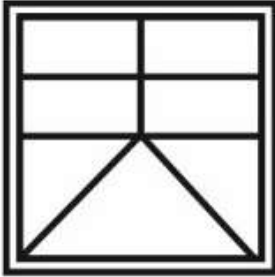
Chosen Option : **4**

Q.4 उस विकल्प आकृति को चुनिए जिसमें दी गई आकृति निहित है।(घूर्णन की अनुमति नहीं है)

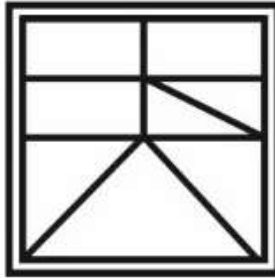


Ans

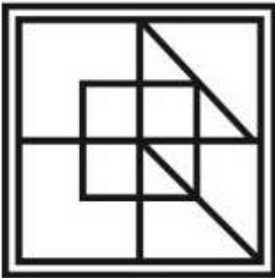
✗ 1.



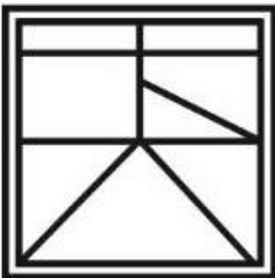
✓ 2.



✗ 3.



✗ 4.



Question Type : MCQ

Question ID : 264330138537

Option 1 ID : 264330542757

Option 2 ID : 264330542756

Option 3 ID : 264330542755

Option 4 ID : 264330542758

Status : Answered

Chosen Option : 2

Q.5 दी गई श्रृंखला में निम्नलिखित में से कौन-सी संख्या प्रश्न चिन्ह (?) के स्थान पर आएगी?
43, 45, 48, 53, 60, 71, ?

- Ans
- 1. 81
 - 2. 82
 - 3. 84
 - 4. 83

Question Type : MCQ

Question ID : 264330133457

Option 1 ID : 264330522859

Option 2 ID : 264330522860

Option 3 ID : 264330522861

Option 4 ID : 264330522862

Status : Answered

Chosen Option : 3

Q.6 एक निश्चित कूट भाषा में, 'COAT' को 'XLZG' लिखा जाता है। उस कूट भाषा में 'PLAY' को कैसे लिखा जाएगा?

- Ans
- 1. KPZB
 - 2. KZOB
 - 3. JOZB
 - 4. KOZB

Question Type : MCQ

Question ID : 264330138814

Option 1 ID : 264330543864

Option 2 ID : 264330543863

Option 3 ID : 264330543865

Option 4 ID : 264330543866

Status : Answered

Chosen Option : 4

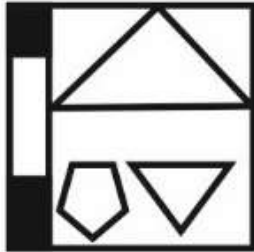
Q.7 यदि एक दर्पण को रेखा AB पर रखा जाए, तो दी गई विकल्प आकृतियों में से कौन-सी आकृति प्रश्न आकृति का सही प्रतिबिम्ब होगी?



A  B

Ans

✓ 1.



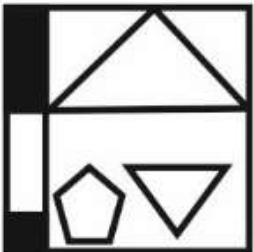
✗ 2.



✗ 3.



✗ 4.



Question Type : MCQ

Question ID : 264330138538

Option 1 ID : 264330542759

Option 2 ID : 264330542761

Option 3 ID : 264330542760

Option 4 ID : 264330542762

Status : Answered

Chosen Option : 1

Q.8 छः मित्र S, T, U, V, W और X एक पंक्ति में दक्षिण की ओर मुख करके बैठे हैं। U, S और V के ठीक बीच में बैठा है। X, W और T के ठीक बीच में बैठा है। पाँच मित्र S के बाईं ओर बैठे हैं। V के बाईं ओर से दूसरे स्थान पर कौन बैठा है?

- Ans
- 1. X
 - 2. W
 - 3. T
 - 4. U

Question Type : MCQ
Question ID : 264330137860
Option 1 ID : 264330540049
Option 2 ID : 264330540047
Option 3 ID : 264330540048
Option 4 ID : 264330540050
Status : Answered
Chosen Option : 1

Q.9 उस विकल्प को चुनिए जो तीसरे शब्द से ठीक उसी प्रकार संबंधित है जिस प्रकार दूसरा शब्द पहले शब्द से संबंधित है।

खरगोश : छलांग :: तोता : ?

- Ans
- 1. रेंगना
 - 2. पक्षी
 - 3. उड़ना
 - 4. दबे पाँव चलना

Question Type : MCQ
Question ID : 264330137854
Option 1 ID : 264330540026
Option 2 ID : 264330540024
Option 3 ID : 264330540023
Option 4 ID : 264330540025
Status : Answered
Chosen Option : 3

Q.10 दिए गए पैटर्न का ध्यानपूर्वक अध्ययन कीजिए और उस संख्या को चुनिए जो इसमें प्रश्न चिन्ह (?) के स्थान पर आ सकती है।

पहली पंक्ति- 80, 64, 48
दूसरी पंक्ति- 112, 96, 80
तीसरी पंक्ति- 232, 216, ?

- Ans
- 1. 200
 - 2. 230
 - 3. 225
 - 4. 219

Question Type : MCQ
Question ID : 264330137868
Option 1 ID : 264330540079
Option 2 ID : 264330540081
Option 3 ID : 264330540080
Option 4 ID : 264330540082
Status : Answered
Chosen Option : 1

Q.11 सात भाइयों सुभम, सौरव, सहवाग, सचिन, सैम, शोएब और सूर्या की उम्र अलग-अलग है। सुभम सबसे बड़ा भाई है। सूर्या केवल दो भाइयों से बड़ा है। सौरव, सैम से बड़ा है लेकिन शोएब से छोटा है। सहवाग केवल सचिन से बड़ा है। कितने भाई सौरव से छोटे हैं?

- Ans
- 1. 5
 - 2. 3
 - 3. 4
 - 4. 2

Question Type : MCQ
Question ID : 264330137862
Option 1 ID : 264330540057
Option 2 ID : 264330540055
Option 3 ID : 264330540056
Option 4 ID : 264330540058
Status : Answered
Chosen Option : 3

Q.12 दिए गए समीकरण को सही करने के लिए किन दो चिन्हों को आपस में बदला जाना चाहिए?

$$8 \div 2 \times 7 - 5 + 2 = 1$$

- Ans
- 1. \times और $-$
 - 2. \times और $+$
 - 3. $+$ और $=$
 - 4. $+$ और $-$

Question Type : MCQ
Question ID : 264330137869
Option 1 ID : 264330540083
Option 2 ID : 264330540085
Option 3 ID : 264330540086
Option 4 ID : 264330540084
Status : Answered
Chosen Option : 2

Q.13 दिए गए समीकरण को सही करने के लिए किन दो संख्याओं को आपस में बदला जाना चाहिए?

$$16 + 24 \times 12 - 25 \div 6 = 312$$

- Ans
- 1. 25 और 24
 - 2. 24 और 16
 - 3. 25 और 16
 - 4. 25 और 12

Question Type : MCQ
Question ID : 264330133502
Option 1 ID : 264330523041
Option 2 ID : 264330523039
Option 3 ID : 264330523042
Option 4 ID : 264330523040
Status : Answered
Chosen Option : 1

Q.14 छः सहकर्मी X, Y, Z, A, B और C एक वृत्ताकार मेज के चारों ओर केंद्र से बाहर की ओर मुख करके बैठे हैं। B, Y के ठीक बाईं ओर बैठा है। A, Z के ठीक दाईं ओर बैठा है। X, B के आसन्न बैठा है। C, Y के आसन्न नहीं बैठा है। A के ठीक दाईं ओर कौन बैठा है?

- Ans**
- 1. Y
 - 2. X
 - 3. C
 - 4. B

Question Type : **MCQ**

Question ID : **264330137861**

Option 1 ID : **264330540053**

Option 2 ID : **264330540051**

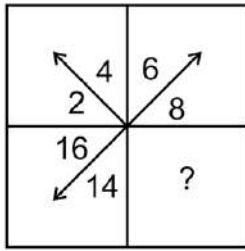
Option 3 ID : **264330540054**

Option 4 ID : **264330540052**

Status : **Answered**

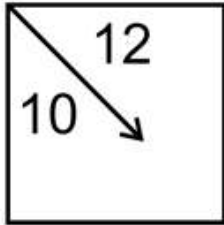
Chosen Option : **4**

Q.15 उस विकल्प आकृति को चुनिए जो पैटर्न को पूरा करने के लिए नीचे दी गई आकृति में प्रश्न चिन्ह (?) के स्थान पर आएगी। (घूर्णन की अनुमति नहीं है)

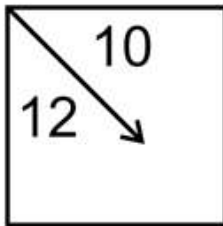


Ans

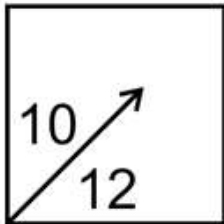
✗ 1.



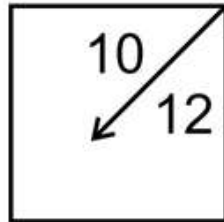
✓ 2.



✗ 3.



✗ 4.



Question Type : MCQ

Question ID : 264330137873

Option 1 ID : 264330540101

Option 2 ID : 264330540099

Option 3 ID : 264330540100

Option 4 ID : 264330540102

Status : Answered

Chosen Option : 2

Q.16 उस विकल्प को चुनिए जो तीसरी संख्या से ठीक उसी प्रकार संबंधित है जिस प्रकार दूसरी संख्या पहली संख्या से संबंधित है।
7 : 343 :: 4 : ?

- Ans**
- ✓ 1. 64
 - ✗ 2. 84
 - ✗ 3. 72
 - ✗ 4. 58

Question Type : **MCQ**

Question ID : **264330133459**

Option 1 ID : **264330522868**

Option 2 ID : **264330522869**

Option 3 ID : **264330522870**

Option 4 ID : **264330522867**

Status : **Answered**

Chosen Option : **1**

Q.17 तीन कथन दिए गए हैं और दो निष्कर्ष I और II दिए गए हैं। कथनों को सत्य मानते हुए, चाहे वे सामान्यतः ज्ञात तथ्यों से अलग प्रतीत होते हों, निश्चय कीजिए कि कौन-सा निष्कर्ष तार्किक रूप से कथनों के अनुसार है।
कथन:

सभी बिल्लियाँ, बाघ हैं।

सभी बाघ, शेर हैं।

कुछ बाघ, कुत्ते हैं।

निष्कर्ष:

I. सभी बिल्लियाँ, शेर हैं।

II. कुछ कुत्ते, शेर हैं।

- Ans**
- ✗ 1. केवल निष्कर्ष II कथनों के अनुसार है
 - ✓ 2. दोनों निष्कर्ष I और II कथनों के अनुसार हैं
 - ✗ 3. न तो निष्कर्ष I और न ही II कथनों के अनुसार है
 - ✗ 4. केवल निष्कर्ष I कथनों के अनुसार है

Question Type : **MCQ**

Question ID : **264330137864**

Option 1 ID : **264330540064**

Option 2 ID : **264330540065**

Option 3 ID : **264330540066**

Option 4 ID : **264330540063**

Status : **Answered**

Chosen Option : **2**

Q.18 निम्नलिखित में से कौन-सा अक्षर-समूह दी गई श्रृंखला में प्रश्न चिन्ह (?) के स्थान पर आएगा?
KS, MU, OW, QY, SA, UC,?

- Ans
- 1. EW
 - 2. WD
 - 3. WS
 - 4. WE

Question Type : MCQ
Question ID : 264330137852
Option 1 ID : 264330540015
Option 2 ID : 264330540018
Option 3 ID : 264330540016
Option 4 ID : 264330540017
Status : Answered
Chosen Option : 4

Q.19 उस विकल्प को चुनिए जो तीसरे अक्षर-समूह से ठीक उसी प्रकार संबंधित है जिस प्रकार दूसरा अक्षर-समूह पहले अक्षर-समूह से संबंधित है।
RS : TU :: TM : ?

- Ans
- 1. OV
 - 2. UP
 - 3. VO
 - 4. VP

Question Type : MCQ
Question ID : 264330137855
Option 1 ID : 264330540027
Option 2 ID : 264330540030
Option 3 ID : 264330540029
Option 4 ID : 264330540028
Status : Answered
Chosen Option : 3

Q.20 एक निश्चित कूट भाषा में, 'NOTIFY' को 'TONYFI' लिखा जाता है। उस कूट भाषा में 'PATENT' को कैसे लिखा जाएगा?

- Ans
- 1. TAPTNE
 - 2. TAPENT
 - 3. PATTNE
 - 4. TAPTEN

Question Type : MCQ
Question ID : 264330137519
Option 1 ID : 264330538685
Option 2 ID : 264330538683
Option 3 ID : 264330538684
Option 4 ID : 264330538686
Status : Answered
Chosen Option : 1

Q.1 ठोस कार्बन डाइऑक्साइड का दूसरा नाम क्या है?

- Ans
- ✓ 1. शुष्क बर्फ (Dry Ice)
 - ✗ 2. कोयला (Coal)
 - ✗ 3. प्रशीतक (Refrigerant)
 - ✗ 4. कोक (Coke)

Question Type : MCQ
Question ID : 264330133913
Option 1 ID : 264330524675
Option 2 ID : 264330524677
Option 3 ID : 264330524678
Option 4 ID : 264330524676
Status : Answered
Chosen Option : 1

Q.2 लच्छू महाराज _____ के एक प्रसिद्ध भारतीय शास्त्रीय नर्तक और नृत्य-निर्देशक (choreographer) थे।

- Ans
- ✗ 1. छऊ
 - ✗ 2. ओडिसी
 - ✗ 3. कुचिपुड़ी
 - ✓ 4. कथक

Question Type : MCQ
Question ID : 264330138878
Option 1 ID : 264330544119
Option 2 ID : 264330544122
Option 3 ID : 264330544121
Option 4 ID : 264330544120
Status : Answered
Chosen Option : 4

Q.3 निम्नलिखित में से किसने पेरिस में फ्रेंच ओपन 2022 बैडमिंटन टूर्नामेंट पुरुष युगल (Men's Doubles) का खिताब जीता?

- Ans
- ✓ 1. चिराग शेट्टी (Chirag Shetty) और सात्विकसाईराज रंकी रेड्डी (Satwiksairaj Ranki Reddy)
 - ✗ 2. ताकुरो होकी (Takuro Hoki) और युगो कोबायाशी (Yugo Kobayashi)
 - ✗ 3. लू चिंग याओ (Lu Ching Yao) और यांग पो हान (Yang Po Han)
 - ✗ 4. को सुंग ह्यून (Ko Sung Hyun) और शिन बेक चेओल (Shin Baek Cheol)

Question Type : MCQ
Question ID : 264330137991
Option 1 ID : 264330540571
Option 2 ID : 264330540572
Option 3 ID : 264330540573
Option 4 ID : 264330540574
Status : Answered
Chosen Option : 3

Q.4 आधुनिक भारतीय भाषाओं का दूसरा सबसे बड़ा परिवार कौन-सा है?

- Ans
- 1. ऑस्ट्रिक (निषाद)
 - 2. चीन-तिब्बती (किराता)
 - 3. द्रविड़ियन (द्रविड़)
 - 4. भारतीय - यूरोपीय (आर्यन)

Question Type : MCQ
Question ID : 264330138643
Option 1 ID : 264330543182
Option 2 ID : 264330543180
Option 3 ID : 264330543179
Option 4 ID : 264330543181
Status : Answered
Chosen Option : 3

Q.5 Bhopal gas disaster occurred in which of the following factory?

- Ans
- 1. Union Carbide Pesticide plant
 - 2. Meghnagar Pharmachem Pvt Ltd
 - 3. Bhopal Incinerator Ltd.
 - 4. Standard Surfactants Limited

Question Type : MCQ
Question ID : 264330138888
Option 1 ID : 264330544160
Option 2 ID : 264330544159
Option 3 ID : 264330544162
Option 4 ID : 264330544161
Status : Answered
Chosen Option : 2

Q.6 ड्रिब्लिंग (Dribbling) _____ खेल से संबंधित है।

- Ans
- 1. बैडमिंटन
 - 2. तैराकी
 - 3. क्रिकेट
 - 4. बास्केटबॉल

Question Type : MCQ
Question ID : 264330133929
Option 1 ID : 264330524741
Option 2 ID : 264330524742
Option 3 ID : 264330524740
Option 4 ID : 264330524739
Status : Answered
Chosen Option : 2

Q.7 यक्षगान निम्नलिखित में से किस राज्य से संबंधित एक प्रसिद्ध लोकनृत्य है?

- Ans
- 1. केरल
 - 2. कर्नाटक
 - 3. तमिलनाडु
 - 4. उड़ीसा

Question Type : MCQ
Question ID : 264330137971
Option 1 ID : 264330540491
Option 2 ID : 264330540492
Option 3 ID : 264330540493
Option 4 ID : 264330540494
Status : Answered
Chosen Option : 2

Q.8 भारतीय अर्थव्यवस्था में बैंक दर _____ द्वारा निर्धारित की जाती है।

- Ans
- 1. भारत के वित्त मंत्रालय
 - 2. भारतीय रिज़र्व बैंक
 - 3. भारतीय प्रतिभूति और विनिमय बोर्ड
 - 4. भारतीय स्टेट बैंक

Question Type : MCQ
Question ID : 264330138881
Option 1 ID : 264330544134
Option 2 ID : 264330544132
Option 3 ID : 264330544131
Option 4 ID : 264330544133
Status : Answered
Chosen Option : 2

Q.9 निम्नलिखित में से किस सुधार के कारण 1919 का भारत सरकार अधिनियम लागू हुआ?

- Ans
- 1. मांटेग्यू-चेम्सफोर्ड सुधार (Montagu- Chelmsford reforms)
 - 2. मार्ले-मिंटो सुधार (Morley-Minto reforms)
 - 3. गुलामी विरोधी सुधार (Antislavery reforms)
 - 4. यंग बंगाल आंदोलन (Young Bengal movement)

Question Type : MCQ
Question ID : 264330133971
Option 1 ID : 264330524910
Option 2 ID : 264330524909
Option 3 ID : 264330524907
Option 4 ID : 264330524908
Status : Answered
Chosen Option : 1

Q.10 'आई टू हेड ए लव स्टोरी (I Too Had a Love Story)' उपन्यास _____ द्वारा लिखा गया है।

- Ans
- 1. अरविंद अडिगा
 - 2. रस्किन बॉन्ड
 - 3. रविंदर सिंह
 - 4. दुर्जय दत्ता

Question Type : MCQ

Question ID : 264330138876

Option 1 ID : 264330544112

Option 2 ID : 264330544111

Option 3 ID : 264330544113

Option 4 ID : 264330544114

Status : Answered

Chosen Option : 1

Q.11 निम्नलिखित में से कौनसी पश्चिम बंगाल की सबसे ऊँची चोटी है?

- Ans
- 1. संदक्फू (Sandakphu)
 - 2. सारामती (Saramati)
 - 3. देवमाली (Deomali)
 - 4. डोड्डाबेट्टा (Doddabetta)

Question Type : MCQ

Question ID : 264330137979

Option 1 ID : 264330540526

Option 2 ID : 264330540523

Option 3 ID : 264330540524

Option 4 ID : 264330540525

Status : Answered

Chosen Option : 4

Q.12 विज्ञान की आवर्त सारणी में "H" किस रासायनिक तत्व का प्रतीक है?

- Ans
- 1. होल्मियम (Holmium)
 - 2. हीलियम (Helium)
 - 3. पारा (Mercury)
 - 4. हाइड्रोजन (Hydrogen)

Question Type : MCQ

Question ID : 264330133911

Option 1 ID : 264330524670

Option 2 ID : 264330524667

Option 3 ID : 264330524669

Option 4 ID : 264330524668

Status : Answered

Chosen Option : 4

Q.13 प्रतिस्पर्धा (संशोधन) विधेयक, 2022 भारत के _____ मंत्रालय से संबंधित है।

- Ans
- ✓ 1. कॉर्पोरेट कार्य
 - ✗ 2. वित्त
 - ✗ 3. जनजातीय कार्य
 - ✗ 4. विधि एवं न्याय

Question Type : MCQ
Question ID : 264330133957
Option 1 ID : 264330524852
Option 2 ID : 264330524851
Option 3 ID : 264330524854
Option 4 ID : 264330524853
Status : Answered
Chosen Option : 1

Q.14 निम्नलिखित में से कौन-सा एक जीवाणु रोग नहीं है?

- Ans
- ✗ 1. महामारी (Plague)
 - ✓ 2. जलांतक (Rabies)
 - ✗ 3. हैज़ा (Cholera)
 - ✗ 4. मोतीझरा (Typhoid)

Question Type : MCQ
Question ID : 264330137975
Option 1 ID : 264330540509
Option 2 ID : 264330540508
Option 3 ID : 264330540507
Option 4 ID : 264330540510
Status : Answered
Chosen Option : 2

Q.15 "संघ" में रहने वाले बौद्ध भिक्षुओं के लिए बनाए गए नियम _____ नामक ग्रंथ में मिलते हैं।

- Ans
- ✗ 1. सुत्तपिटक
 - ✗ 2. अभिधम्मपिटक
 - ✗ 3. मिलिंदपन्ह
 - ✓ 4. विनयपिटक

Question Type : MCQ
Question ID : 264330138317
Option 1 ID : 264330541875
Option 2 ID : 264330541878
Option 3 ID : 264330541876
Option 4 ID : 264330541877
Status : Answered
Chosen Option : 2

Q.16 भारतीय संविधान का निम्नलिखित में से कौन-सा अनुच्छेद "मौलिक कर्तव्यों (Fundamental Duties)" से संबंधित है?

- Ans
- 1. 54-A
 - 2. 51-A
 - 3. 55-A
 - 4. 61-A

Question Type : MCQ
Question ID : 264330137989
Option 1 ID : 264330540565
Option 2 ID : 264330540566
Option 3 ID : 264330540563
Option 4 ID : 264330540564
Status : Answered
Chosen Option : 2

Q.17 2022 में, केंद्रीय इलेक्ट्रॉनिक्स और सूचना प्रौद्योगिकी मंत्रालय ने _____ में ग्रीनफील्ड इलेक्ट्रॉनिक्स मैनुफैक्चरिंग क्लस्टर (EMC - Electronics Manufacturing Cluster) को मंजूरी दी।

- Ans
- 1. पश्चिम बंगाल
 - 2. केरल
 - 3. महाराष्ट्र
 - 4. राजस्थान

Question Type : MCQ
Question ID : 264330137969
Option 1 ID : 264330540485
Option 2 ID : 264330540483
Option 3 ID : 264330540486
Option 4 ID : 264330540484
Status : Answered
Chosen Option : 1

Q.18 भारत के पड़ोसी देश बांग्लादेश की आधिकारिक भाषा कौन-सी है?

- Ans
- 1. जोंगखा (Dzongkha)
 - 2. उर्दू
 - 3. बंगाली
 - 4. हिन्दी

Question Type : MCQ
Question ID : 264330135471
Option 1 ID : 264330530794
Option 2 ID : 264330530792
Option 3 ID : 264330530793
Option 4 ID : 264330530791
Status : Answered
Chosen Option : 1

Q.19 सिक्किम में "लोसर (Losar)" का त्योहार नव वर्ष के रूप में मनाया जाता है। यह _____ चंद्र कैलेंडर के पहले महीने के पहले दिन मनाया जाता है।

- Ans
- ✓ 1. तिब्बती
 - ✗ 2. फ़ारसी
 - ✗ 3. ग्रेगोरियन
 - ✗ 4. इस्लामी

Question Type : MCQ
Question ID : 264330138297
Option 1 ID : 264330541795
Option 2 ID : 264330541798
Option 3 ID : 264330541796
Option 4 ID : 264330541797
Status : Answered
Chosen Option : 3

Q.20 किसने बदायूं (1197-98 ई.) पर कब्जा करके इल्तुतमिश को वहाँ के पहले मुस्लिम गवर्नर के रूप में नियुक्त किया?

- Ans
- ✗ 1. मुहम्मद गोरी
 - ✓ 2. कुतुबुद्दीन ऐबक
 - ✗ 3. महाराणा प्रताप
 - ✗ 4. पृथ्वीराज चौहान

Question Type : MCQ
Question ID : 264330133920
Option 1 ID : 264330524706
Option 2 ID : 264330524705
Option 3 ID : 264330524704
Option 4 ID : 264330524703
Status : Answered
Chosen Option : 1

Q.21 अखिल भारतीय मुस्लिम लीग का गठन ढाका में वर्ष _____ में हुआ था।

- Ans
- ✗ 1. 1904
 - ✓ 2. 1906
 - ✗ 3. 1908
 - ✗ 4. 1902

Question Type : MCQ
Question ID : 264330138320
Option 1 ID : 264330541888
Option 2 ID : 264330541889
Option 3 ID : 264330541890
Option 4 ID : 264330541887
Status : Answered
Chosen Option : 2

Q.22 निम्नलिखित में से किसका संबंध तबला से नहीं है?

- Ans
- 1. संदीप दास (Sandeep Das)
 - 2. जान प्रकाश घोष (Jnan Prakash Ghosh)
 - 3. साबिर खान (Sabir Khan)
 - 4. शकूर खान (Shakoor Khan)

Question Type : MCQ
Question ID : 264330137987
Option 1 ID : 264330540555
Option 2 ID : 264330540556
Option 3 ID : 264330540557
Option 4 ID : 264330540558
Status : Answered
Chosen Option : 4

Q.23 भारतीय संविधान के निम्नलिखित में से किस अनुच्छेद में भारत के महान्यायवादी का प्रावधान है?

- Ans
- 1. 72
 - 2. 76
 - 3. 79
 - 4. 81

Question Type : MCQ
Question ID : 264330137990
Option 1 ID : 264330540567
Option 2 ID : 264330540568
Option 3 ID : 264330540569
Option 4 ID : 264330540570
Status : Answered
Chosen Option : 2

Q.24 प्रीत एक ऐसे महासागर के बारे में लिखती हैं जो उत्तरी अमेरिका को यूरोप से अलग करता है। यह कौन सा महासागर है?

- Ans
- 1. अटलांटिक महासागर
 - 2. प्रशांत महासागर
 - 3. आर्कटिक महासागर
 - 4. हिंद महासागर

Question Type : MCQ
Question ID : 264330133914
Option 1 ID : 264330524682
Option 2 ID : 264330524681
Option 3 ID : 264330524679
Option 4 ID : 264330524680
Status : Answered
Chosen Option : 4

Q.25 राजस्थान के माउंट आबू में दिलवाड़ा मंदिर (Dilwara Temple) _____ मंदिर शैली (temple architecture) का एक जीता-जागता उदाहरण है।

- Ans
- 1. बौद्ध
 - 2. द्रविड़
 - 3. जैन
 - 4. मुगल

Question Type : MCQ
Question ID : 264330133960
Option 1 ID : 264330524866
Option 2 ID : 264330524863
Option 3 ID : 264330524865
Option 4 ID : 264330524864
Status : Answered
Chosen Option : 3

Section : English Language and Comprehension

Q.1 Select the most appropriate option to fill in the blank.

We cannot _____ a religion or a political party that ignores the rights of half the human race.

- Ans
- 1. condemn
 - 2. disseminate
 - 3. forgive
 - 4. desiccate

Question Type : MCQ
Question ID : 264330136689
Option 1 ID : 264330535471
Option 2 ID : 264330535473
Option 3 ID : 264330535472
Option 4 ID : 264330535474
Status : Answered
Chosen Option : 1

Q.2 Select the most appropriate option to fill in the blank.

This initiative has been sharply criticised as grossly inefficient and _____.

- Ans
- 1. Capricious
 - 2. Counterproductive
 - 3. Canonical
 - 4. Calumny

Question Type : MCQ
Question ID : 264330136515
Option 1 ID : 264330534803
Option 2 ID : 264330534806
Option 3 ID : 264330534804
Option 4 ID : 264330534805
Status : Not Answered
Chosen Option : --

Q.3 Improve the underlined part of the sentence. Choose 'No improvement' as an answer if the sentence is grammatically correct.

The dessert was many sweet for my tastes.

- Ans**
- 1. No improvement
 - 2. too sweetly
 - 3. too sweet
 - 4. more sweeter

Question Type : **MCQ**
Question ID : **264330134827**
Option 1 ID : **264330528250**
Option 2 ID : **264330528249**
Option 3 ID : **264330528248**
Option 4 ID : **264330528247**
Status : **Answered**
Chosen Option : **3**

Q.4 Select the most appropriate word for the given group of words.

Open to more than one interpretation, not having one obvious meaning

- Ans**
- 1. Altercation
 - 2. Ambiguous
 - 3. Alchemy
 - 4. Amateur

Question Type : **MCQ**
Question ID : **264330136524**
Option 1 ID : **264330534836**
Option 2 ID : **264330534835**
Option 3 ID : **264330534838**
Option 4 ID : **264330534837**
Status : **Answered**
Chosen Option : **2**

Q.5 Select the correctly spelt word.

- Ans**
- 1. resind
 - 2. rescind
 - 3. recsind
 - 4. recind

Question Type : **MCQ**
Question ID : **264330136531**
Option 1 ID : **264330534864**
Option 2 ID : **264330534863**
Option 3 ID : **264330534866**
Option 4 ID : **264330534865**
Status : **Answered**
Chosen Option : **2**

Q.6 Choose the word that is opposite in meaning to the given word.
Doze

- Ans** 1. Wake
 2. Cold
 3. Snooze
 4. Neglect

Question Type : **MCQ**
Question ID : **264330134442**
Option 1 ID : **264330526740**
Option 2 ID : **264330526741**
Option 3 ID : **264330526739**
Option 4 ID : **264330526742**
Status : **Answered**
Chosen Option : **1**

Q.7 Identify the segment that contains a grammatical error. If there is no error, select 'No error'.

The Federalists wished to/ make the central government/ as strong possible.

- Ans** 1. The Federalists wished to
 2. as strong possible.
 3. No error
 4. make the central government

Question Type : **MCQ**
Question ID : **264330136511**
Option 1 ID : **264330534787**
Option 2 ID : **264330534789**
Option 3 ID : **264330534790**
Option 4 ID : **264330534788**
Status : **Answered**
Chosen Option : **2**

Q.8 Select the most appropriate meaning of the bracketed idiom in the given sentence.

Sure, fixing a flubbed decision isn't always (a piece of cake), but it's rarely impossible.

- Ans** 1. A task that can be accomplished very easily
 2.
Having no stand, shows favour at one time and unfavour at another
 3. A rare event or occurrence
 4. The family bond is closer than anything else

Question Type : **MCQ**
Question ID : **264330136530**
Option 1 ID : **264330534860**
Option 2 ID : **264330534862**
Option 3 ID : **264330534859**
Option 4 ID : **264330534861**
Status : **Answered**
Chosen Option : **3**

Q.9 Select the most appropriate option to substitute the bracketed segment in the given sentence. If there is no need to substitute it, select 'no substitution required'.
The query isn't (whether he will admit it, but when).

- Ans**
- 1. whether he will admit it or not, but when?
 - 2. whether he will be admitting it or not, but when?
 - 3. No substitution required
 - 4. whether or nor he will admit it, but when?

Question Type : **MCQ**
Question ID : **264330136720**
Option 1 ID : **264330535592**
Option 2 ID : **264330535591**
Option 3 ID : **264330535594**
Option 4 ID : **264330535593**
Status : **Answered**
Chosen Option : **1**

Q.10 Select the most appropriate antonym to substitute the bracketed word in the given sentence.

They are virtually unimpeachable in the (unbiased), invariably correct reading of a race.

- Ans**
- 1. prejudiced
 - 2. ceasing
 - 3. captivity
 - 4. stranger

Question Type : **MCQ**
Question ID : **264330136528**
Option 1 ID : **264330534853**
Option 2 ID : **264330534852**
Option 3 ID : **264330534851**
Option 4 ID : **264330534854**
Status : **Not Answered**
Chosen Option : **--**

Q.11 Find the part of the given sentence that has an error in it. If there is no error, choose 'No error'.

Can you please help me to this project?

- Ans**
- 1. Can you please
 - 2. help me to
 - 3. No error
 - 4. this project?

Question Type : **MCQ**
Question ID : **264330134347**
Option 1 ID : **264330526375**
Option 2 ID : **264330526376**
Option 3 ID : **264330526378**
Option 4 ID : **264330526377**
Status : **Answered**
Chosen Option : **1**

Q.12 In the following question, out of the given four alternatives, select the alternative which best expresses the meaning of the Idiom/Phrase.
To kill two birds with one stone

- Ans
- 1. The weak point in a person
 - 2. To accidentally hurt someone's feelings
 - 3. To achieve two things with a single effort
 - 4. A work which needs tremendous efforts

Question Type : **MCQ**
Question ID : **264330134392**
Option 1 ID : **264330526548**
Option 2 ID : **264330526550**
Option 3 ID : **264330526547**
Option 4 ID : **264330526549**
Status : **Answered**
Chosen Option : **3**

Q.13 Select the most appropriate option to fill in the blank.

They probably subsisted on insects and other small _____ invertebrates and perhaps even on aquatic vertebrates.

- Ans
- 1. reverent
 - 2. skittish
 - 3. terrestrial
 - 4. recluse

Question Type : **MCQ**
Question ID : **264330136534**
Option 1 ID : **264330534876**
Option 2 ID : **264330534877**
Option 3 ID : **264330534878**
Option 4 ID : **264330534875**
Status : **Not Answered**
Chosen Option : **--**

Q.14 Select the most appropriate option to fill in the blank.

The duke had capacity, but his life was so _____ that what influence he had upon the king was for evil.

- Ans
- 1. lewd
 - 2. scrumptious
 - 3. seditious
 - 4. ambitious

Question Type : **MCQ**
Question ID : **264330136724**
Option 1 ID : **264330535609**
Option 2 ID : **264330535607**
Option 3 ID : **264330535608**
Option 4 ID : **264330535610**
Status : **Not Answered**
Chosen Option : **--**

Q.15 Select the word segment that substitutes (replaces) the bracketed word segment correctly and completes the sentence meaningfully. Select the option 'no correction required' if the sentence is correct as given.

The (roof collapsing) in a roar of rock and rubble.

- Ans**
- ✓ 1. roof collapsed
 - ✗ 2. roof was collapse
 - ✗ 3. No correction required
 - ✗ 4. roof have collapsed

Question Type : **MCQ**
Question ID : **264330136592**
Option 1 ID : **264330535101**
Option 2 ID : **264330535099**
Option 3 ID : **264330535102**
Option 4 ID : **264330535100**
Status : **Answered**
Chosen Option : **4**

Q.16 Select the most appropriate synonym of the given word.

Debased

- Ans**
- ✓ 1. Corrupted
 - ✗ 2. Unamenable
 - ✗ 3. Aggrandize
 - ✗ 4. Amenable

Question Type : **MCQ**
Question ID : **264330136525**
Option 1 ID : **264330534840**
Option 2 ID : **264330534841**
Option 3 ID : **264330534839**
Option 4 ID : **264330534842**
Status : **Not Answered**
Chosen Option : **--**

Q.17 Select the wrongly spelt word.

- Ans**
- ✗ 1. Unconventional
 - ✓ 2. Alturistc
 - ✗ 3. Ethical
 - ✗ 4. Unsavoury

Question Type : **MCQ**
Question ID : **264330136688**
Option 1 ID : **264330535469**
Option 2 ID : **264330535470**
Option 3 ID : **264330535467**
Option 4 ID : **264330535468**
Status : **Answered**
Chosen Option : **4**

Q.18 Select the word from the options which is similar in meaning to the bracketed word given in the sentence below.
Well, you want an (argument)," he added, "come on then."

- Ans
- 1. enhancement
 - 2. capability
 - 3. explanation
 - 4. agreement

Question Type : **MCQ**
Question ID : **264330136708**
Option 1 ID : **264330535546**
Option 2 ID : **264330535545**
Option 3 ID : **264330535544**
Option 4 ID : **264330535543**
Status : **Answered**
Chosen Option : **4**

Q.19 Identify the segment that contains a grammatical error. If there is no error, select 'No error'.
He belted two huge sixers, but / eleven to get of the last two / deliveries was a big ask.

- Ans
- 1. He belted two huge sixers, but
 - 2. eleven to get of the last two
 - 3. No error
 - 4. deliveries was a big ask.

Question Type : **MCQ**
Question ID : **264330136717**
Option 1 ID : **264330535579**
Option 2 ID : **264330535580**
Option 3 ID : **264330535582**
Option 4 ID : **264330535581**
Status : **Answered**
Chosen Option : **1**

Q.20 Choose the word that can substitute the given group of words.
A person who believes in the equality of all people

- Ans
- 1. Philodendron
 - 2. Philologist
 - 3. Philander
 - 4. Egalitarian

Question Type : **MCQ**
Question ID : **264330134386**
Option 1 ID : **264330526524**
Option 2 ID : **264330526523**
Option 3 ID : **264330526526**
Option 4 ID : **264330526525**
Status : **Answered**
Chosen Option : **2**

Comprehension:

In the following passage some of the words have been deleted. Read the passage carefully and select the correct answer for the given blank out of the four alternatives.

Network security (1) _____ securing a network and protecting the user's information about (2) _____ is connected through that network. Over the network (3) _____ steal, the packets of data through sniffing and spoofing (4) _____, man in the middle attack, war driving, etc, and misuse the data for their (5) _____.

SubQuestion No : 21

Q.21 Select the most appropriate option to fill in blank number 1.

- Ans 1. declares
 2. calls
 3. means
 4. names

Question Type : **MCQ**

Question ID : **264330134433**

Option 1 ID : **264330526703**

Option 2 ID : **264330526706**

Option 3 ID : **264330526705**

Option 4 ID : **264330526704**

Status : **Answered**

Chosen Option : **3**

Comprehension:

In the following passage some of the words have been deleted. Read the passage carefully and select the correct answer for the given blank out of the four alternatives.

Network security (1) _____ securing a network and protecting the user's information about (2) _____ is connected through that network. Over the network (3) _____ steal, the packets of data through sniffing and spoofing (4) _____, man in the middle attack, war driving, etc, and misuse the data for their (5) _____.

SubQuestion No : 22

Q.22 Select the most appropriate option to fill in blank number 2.

- Ans 1. whose
 2. which
 3. who
 4. that

Question Type : **MCQ**

Question ID : **264330134434**

Option 1 ID : **264330526708**

Option 2 ID : **264330526709**

Option 3 ID : **264330526710**

Option 4 ID : **264330526707**

Status : **Answered**

Chosen Option : **2**

Comprehension:

In the following passage some of the words have been deleted. Read the passage carefully and select the correct answer for the given blank out of the four alternatives.

Network security (1) _____ securing a network and protecting the user's information about (2) _____ is connected through that network. Over the network (3) _____ steal, the packets of data through sniffing and spoofing (4) _____, man in the middle attack, war driving, etc, and misuse the data for their (5) _____.

SubQuestion No : 23

Q.23 Select the most appropriate option to fill in blank number 3.

- Ans 1. engineers
 2. labourers
 3. hackers
 4. smugglers

Question Type : **MCQ**

Question ID : **264330134435**

Option 1 ID : **264330526711**

Option 2 ID : **264330526714**

Option 3 ID : **264330526713**

Option 4 ID : **264330526712**

Status : **Answered**

Chosen Option : **3**

Comprehension:

In the following passage some of the words have been deleted. Read the passage carefully and select the correct answer for the given blank out of the four alternatives.

Network security (1) _____ securing a network and protecting the user's information about (2) _____ is connected through that network. Over the network (3) _____ steal, the packets of data through sniffing and spoofing (4) _____, man in the middle attack, war driving, etc, and misuse the data for their (5) _____.

SubQuestion No : 24

Q.24 Select the most appropriate option to fill in blank number 4.

- Ans 1. attacks
 2. guards
 3. charges
 4. raids

Question Type : **MCQ**

Question ID : **264330134436**

Option 1 ID : **264330526718**

Option 2 ID : **264330526715**

Option 3 ID : **264330526716**

Option 4 ID : **264330526717**

Status : **Answered**

Chosen Option : **1**

Comprehension:

In the following passage some of the words have been deleted. Read the passage carefully and select the correct answer for the given blank out of the four alternatives.

Network security (1) _____ securing a network and protecting the user's information about (2) _____ is connected through that network. Over the network (3) _____ steal, the packets of data through sniffing and spoofing (4) _____, man in the middle attack, war driving, etc, and misuse the data for their (5) _____.

SubQuestion No : 25

Q.25 Select the most appropriate option to fill in blank number 5.

Ans ✓ 1. benefits

✗ 2. pleasure

✗ 3. hindrances

✗ 4. banes

Question Type : **MCQ**

Question ID : **264330134437**

Option 1 ID : **264330526721**

Option 2 ID : **264330526722**

Option 3 ID : **264330526720**

Option 4 ID : **264330526719**

Status : **Answered**

Chosen Option : **3**

Multi Tasking Non Technical Staff and Havaladar CBIC and CBN Examination 2022

Roll Number	KD Job Updates
Candidate Name	KD Job Updates
Venue Name	R K Digital Computer Centre 2
Exam Date	15/05/2023
Exam Time	9:00 AM - 10:30 AM
Subject	MTS Non Tech Havaladar CBIC and CBN Examination 2022

Section : Numerical and Mathematical Ability

Q.1 क्रय मूल्य और विक्रय मूल्य के बीच Rs. 143 का अंतर है। यदि लाभ प्रतिशत 26 प्रतिशत है, तो विक्रय मूल्य क्या है?

- Ans
- 1. Rs. 713
 - 2. Rs. 676
 - 3. Rs. 693
 - 4. Rs. 603

Question Type : MCQ

Question ID : 264330133842

Option 1 ID : 264330524391

Option 2 ID : 264330524394

Option 3 ID : 264330524393

Option 4 ID : 264330524392

Status : Answered

Chosen Option : 3

Q.2 रंगीन ब्लाँक की कुल संख्या 1260 है। यदि लाल ब्लाँक और नीले ब्लाँक का अनुपात 2:5 है और नीले ब्लाँक और पीले ब्लाँक का अनुपात 15:7 है, तो पीले ब्लाँक की संख्या कितनी है?

- Ans
- 1. 270
 - 2. 745
 - 3. 675
 - 4. 315

Question Type : MCQ

Question ID : 264330133844

Option 1 ID : 264330524400

Option 2 ID : 264330524402

Option 3 ID : 264330524401

Option 4 ID : 264330524399

Status : Answered

Chosen Option : 4

Q.3 {20 of 4 + (40 - 14 + 30) - 84} का मान ज्ञात कीजिए।

- Ans
- 1. 50
 - 2. 52
 - 3. 55
 - 4. 44

Question Type : MCQ

Question ID : 264330133757

Option 1 ID : 264330524052

Option 2 ID : 264330524054

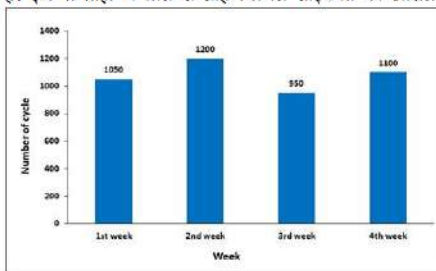
Option 3 ID : 264330524051

Option 4 ID : 264330524053

Status : Answered

Chosen Option : 2

Q.4 निम्नलिखित दंड आलेख में एक कारखाने में 4 क्रमागत सप्ताहों के दौरान निर्मित साइकलों की संख्या को दर्शाया गया है। इन सप्ताहों में प्रति सप्ताह निर्मित साइकलों की औसत संख्या कितनी है?



Number of cycle = साइकलों की संख्या

1st week = पहला सप्ताह, 2nd week = दूसरा सप्ताह, 3rd week = तीसरा सप्ताह, 4th week = चौथा सप्ताह

Week = सप्ताह

- Ans
- 1. 1085
 - 2. 1075
 - 3. 1120
 - 4. 1015

Question Type : MCQ

Question ID : 264330133852

Option 1 ID : 264330524432

Option 2 ID : 264330524431

Option 3 ID : 264330524433

Option 4 ID : 264330524434

Status : Answered

Chosen Option : 2

Q.5 पिंकी और रिंकी मिलकर किसी काम को 20 दिनों में पूरा कर सकती हैं। रिंकी और मिंकी मिलकर इसे 12 दिनों में पूरा कर सकती हैं जबकि पिंकी और मिंकी मिलकर इसे 15 दिनों में पूरा कर सकती हैं। रिंकी अकेले इसे कितने दिनों में पूरा कर सकती है?

- Ans
- ✓ 1. 30 दिन
 - ✗ 2. 10 दिन
 - ✗ 3. 25 दिन
 - ✗ 4. 20 दिन

Question Type : MCQ

Question ID : 264330133641

Option 1 ID : 264330523589

Option 2 ID : 264330523587

Option 3 ID : 264330523590

Option 4 ID : 264330523588

Status : Answered

Chosen Option : 1

Q.6 कृष को 24 मीटर दौड़ने में उतना ही समय लगता है जितना एक बस को 72 मीटर की दूरी तय करने में लगता है। बस द्वारा 4.8 km की दूरी तय करने पर कृष द्वारा तय की गई दूरी कितनी होगी?

- Ans
- ✗ 1. 2.4 km
 - ✗ 2. 2.1 km
 - ✓ 3. 1.6 km
 - ✗ 4. 3.6 km

Question Type : MCQ

Question ID : 264330133848

Option 1 ID : 264330524416

Option 2 ID : 264330524418

Option 3 ID : 264330524415

Option 4 ID : 264330524417

Status : Answered

Chosen Option : 3

Q.7 $[-11 + 2 - 12 \div 4] \times 5$ का मान है:

- Ans
- ✓ 1. -60
 - ✗ 2. -12
 - ✗ 3. 17
 - ✗ 4. 84

Question Type : MCQ

Question ID : 264330133836

Option 1 ID : 264330524369

Option 2 ID : 264330524367

Option 3 ID : 264330524368

Option 4 ID : 264330524370

Status : Answered

Chosen Option : 1

Q.8 साधारण ब्याज पर एक धनराशि 3 वर्ष में Rs. 800 और 4 वर्ष में Rs. 900 हो जाती है। वह धनराशि है:

- Ans
- 1. Rs.600
 - 2. Rs.800
 - 3. Rs.500
 - 4. Rs.700

Question Type : MCQ

Question ID : 264330133746

Option 1 ID : 264330524008

Option 2 ID : 264330524010

Option 3 ID : 264330524007

Option 4 ID : 264330524009

Status : Answered

Chosen Option : 3

Q.9 Rs. 60000 पर 4% वार्षिक चक्रवृद्धि ब्याज Rs. 4896 होता है। वर्षों में समय अवधि कितनी है?

- Ans
- 1. 2 वर्ष
 - 2. 4 वर्ष
 - 3. 1 वर्ष
 - 4. 3 वर्ष

Question Type : MCQ

Question ID : 264330133847

Option 1 ID : 264330524412

Option 2 ID : 264330524414

Option 3 ID : 264330524411

Option 4 ID : 264330524413

Status : Answered

Chosen Option : 1

Q.10 $5/33$, $25/11$, $20/55$ और $15/77$ का लघुत्तम समापवर्त्य (LCM) है:

- Ans
- 1. 300/11
 - 2. 25/33
 - 3. 500/11
 - 4. 300/77

Question Type : MCQ

Question ID : 264330135110

Option 1 ID : 264330529375

Option 2 ID : 264330529376

Option 3 ID : 264330529377

Option 4 ID : 264330529378

Status : Answered

Chosen Option : 1

Q.11 10 संख्याओं का योग 686 है। उनका औसत क्या है?

- Ans 1. 68.6
 2. 66.6
 3. 65.5
 4. 67.5

Question Type : MCQ

Question ID : 264330133838

Option 1 ID : 264330524377

Option 2 ID : 264330524378

Option 3 ID : 264330524376

Option 4 ID : 264330524375

Status : Answered

Chosen Option : 1

Q.12 एक ठोस धात्विक गोले की त्रिज्या 28 cm है। यदि इसे पिघलाकर 3.5 cm त्रिज्या के छोटे-छोटे गोले बनाए जाएँ, तो कितने छोटे गोले बनेंगे?

- Ans 1. 512
 2. 424
 3. 496
 4. 624

Question Type : MCQ

Question ID : 264330137616

Option 1 ID : 264330539071

Option 2 ID : 264330539074

Option 3 ID : 264330539073

Option 4 ID : 264330539072

Status : Answered

Chosen Option : 1

Q.13 निम्न तालिका में एक कंपनी द्वारा दो वर्षों में विभिन्न देशों में किए गए उत्पादों के निर्यात (सौ में) को दर्शाया गया है। दोनों वर्षों में मिलाकर रूस और भारत के उत्पादों का कुल निर्यात ज्ञात कीजिए।

Countries	Export in 2018	Export in 2019
China	440	400
India	320	280
Japan	340	330
Australia	480	460
Korea	210	260
Russia	180	190

Countries = देश, Export in 2018 = 2018 में निर्यात, Export in 2019 = 2019 में निर्यात

China = चीन, India = भारत, Japan = जापान, Australia = ऑस्ट्रेलिया, Korea = कोरिया, Russia = रूस

- Ans
- 1. 96,000
 - 2. 99,000
 - 3. 88,000
 - 4. 97,000

Question Type : MCQ

Question ID : 264330133771

Option 1 ID : 264330524110

Option 2 ID : 264330524108

Option 3 ID : 264330524107

Option 4 ID : 264330524109

Status : Answered

Chosen Option : 4

Q.14 महामारी फैलने के कारण एक शहर की आबादी 156940 से घटकर 141246 हो गई। आबादी में कितने प्रतिशत की कमी हुई है?

- Ans
- 1. 8%
 - 2. 10%
 - 3. 15%
 - 4. 12%

Question Type : MCQ

Question ID : 264330133840

Option 1 ID : 264330524383

Option 2 ID : 264330524384

Option 3 ID : 264330524386

Option 4 ID : 264330524385

Status : Answered

Chosen Option : 2

Q.15 राम, तीन समान दूरियों के लिए 15 km/hr, 10 km/hr और 12 km/hr की चाल से यात्रा करता है। यदि उसके द्वारा तय की गई कुल दूरी 180 km है, तो उसकी औसत चाल क्या है?

- Ans
- 1. 18 km/hr
 - 2. 12 km/hr
 - 3. 15 km/hr
 - 4. 20 km/hr

Question Type : MCQ

Question ID : 264330135135

Option 1 ID : 264330529477

Option 2 ID : 264330529476

Option 3 ID : 264330529475

Option 4 ID : 264330529478

Status : Answered

Chosen Option : 2

Q.16 महेश और सुरेश अकेले किसी कार्य को क्रमशः 20 दिन और 30 दिन में पूरा कर सकते हैं। साथ मिलकर कार्य पूरा करने के लिए उन्हें Rs. 3300 मिले। इसमें महेश का हिस्सा कितना है?

- Ans
- 1. Rs. 1720
 - 2. Rs. 2080
 - 3. Rs. 1800
 - 4. Rs. 1980

Question Type : MCQ

Question ID : 264330137603

Option 1 ID : 264330539019

Option 2 ID : 264330539022

Option 3 ID : 264330539020

Option 4 ID : 264330539021

Status : Answered

Chosen Option : 4

Q.17 जब कोई धनराशि 50 बच्चों में समान रूप से वितरित की गई, तो प्रत्येक बच्चे को Rs. 80 प्राप्त हुए। यदि समान राशि को बच्चों के दूसरे समूह में समान रूप से इस प्रकार वितरित किया जाए कि प्रत्येक बच्चे को Rs. 50 प्राप्त हों, तो दूसरे समूह में बच्चों की संख्या कितनी है?

- Ans
- 1. 60
 - 2. 50
 - 3. 80
 - 4. 40

Question Type : MCQ

Question ID : 264330133845

Option 1 ID : 264330524405

Option 2 ID : 264330524404

Option 3 ID : 264330524406

Option 4 ID : 264330524403

Status : Answered

Chosen Option : 3

Q.18 एक दुकानदार Rs. 5000 में सूचीबद्ध एक डाइनिंग-सेट को 20% और 10% के क्रमागत बट्टों पर एक आदमी को बेचता है। डाइनिंग सेट का विक्रय मूल्य क्या है?

- Ans
- 1. Rs. 3600
 - 2. Rs. 1000
 - 3. Rs. 4000
 - 4. Rs. 4800

Question Type : MCQ

Question ID : 264330133843

Option 1 ID : 264330524396

Option 2 ID : 264330524397

Option 3 ID : 264330524395

Option 4 ID : 264330524398

Status : Answered

Chosen Option : 1

Q.19 18 cm त्रिज्या वाले एक गोले को पिघलाया जाता है और फिर इससे 4 cm आधार त्रिज्या का एक ठोस बेलन बनाया जाता है। ठोस बेलन की ऊँचाई कितनी है?

- Ans
- 1. 384 cm
 - 2. 486 cm
 - 3. 196 cm
 - 4. 224 cm

Question Type : MCQ

Question ID : 264330133646

Option 1 ID : 264330523607

Option 2 ID : 264330523609

Option 3 ID : 264330523608

Option 4 ID : 264330523610

Status : Answered

Chosen Option : 2

Q.20 एक वस्तु के क्रय मूल्य का 40 प्रतिशत उसके विक्रय मूल्य के 25 प्रतिशत के बराबर है। वस्तु पर लाभ प्रतिशत क्या है?

- Ans
- 1. 120 प्रतिशत
 - 2. 60 प्रतिशत
 - 3. 150 प्रतिशत
 - 4. 50 प्रतिशत

Question Type : MCQ

Question ID : 264330137137

Option 1 ID : 264330537192

Option 2 ID : 264330537193

Option 3 ID : 264330537194

Option 4 ID : 264330537191

Status : Answered

Chosen Option : 2

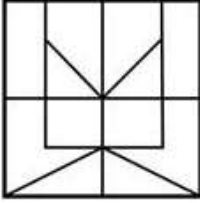
Q.1 उस विकल्प आकृति को चुनिए जिसमें दी गई आकृति (X) इसके भाग के रूप में निहित है। (घूर्णन की अनुमति नहीं है)।



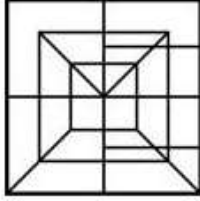
(X)

Ans

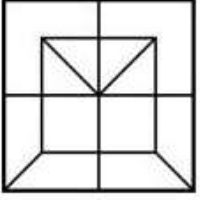
✗ 1.



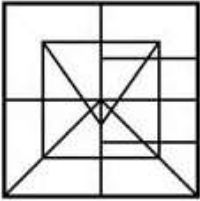
✓ 2.



✗ 3.



✗ 4.



Question Type : MCQ

Question ID : 264330133483

Option 1 ID : 264330522964

Option 2 ID : 264330522966

Option 3 ID : 264330522963

Option 4 ID : 264330522965

Status : Answered

Chosen Option : 2

Q.2 पाँच मित्र A, B, G, R और T को एक पंक्ति में उत्तर की ओर मुख करके बैठाया गया है, परंतु जरूरी नहीं है कि वे इसी क्रम में बैठें हों। B पंक्ति के बाएँ छोर पर बैठा है। A और G के बीच केवल दो व्यक्ति बैठे हैं। A, B के ठीक बगल में बैठा है और R, B के दाएँ से दूसरे स्थान पर बैठा है। R और G के बीच कौन बैठा है?

Ans ✓ 1. T

✗ 2. B

✗ 3. A

✗ 4. कोई भी नहीं

Question Type : MCQ

Question ID : 264330133567

Option 1 ID : 264330523293

Option 2 ID : 264330523291

Option 3 ID : 264330523294

Option 4 ID : 264330523292

Status : Answered

Chosen Option : 4

Q.3 उस समुच्चय को चुनिए जिसमें संख्याएँ उसी प्रकार संबंधित हैं जिस प्रकार निम्नलिखित समुच्चयों की संख्याएँ संबंधित हैं। (ध्यान दें: संख्याओं को उनके घटक अंकों में अलग-अलग किए बिना, पूर्ण संख्याओं पर संक्रियाएँ की जानी चाहिए। उदाहरण 13 - 13 पर संक्रियाएँ जैसे 13 को जोड़ना / घटाना / गुणा करना आदि किया जा सकता है। 13 को 1 एवं 3 में अलग करने की और फिर 1 एवं 3 पर गणितीय संक्रियाएँ करने की अनुमति नहीं है)
(17, 35, 72)
(13, 27, 56)

- Ans**
- 1. (11, 24, 50)
 - 2. (12, 25, 50)
 - 3. (18, 36, 110)
 - 4. (15, 31, 64)

Question Type : **MCQ**
Question ID : **264330133575**
Option 1 ID : **264330523325**
Option 2 ID : **264330523326**
Option 3 ID : **264330523324**
Option 4 ID : **264330523323**
Status : **Answered**
Chosen Option : **4**

Q.4 उस विकल्प को चुनिए जो तीसरी संख्या से ठीक उसी प्रकार संबंधित है जिस प्रकार दूसरी संख्या पहली संख्या से संबंधित है।
12 : 1730 :: 9 : ?

- Ans**
- 1. 731
 - 2. 730
 - 3. 741
 - 4. 733

Question Type : **MCQ**
Question ID : **264330133574**
Option 1 ID : **264330523320**
Option 2 ID : **264330523319**
Option 3 ID : **264330523322**
Option 4 ID : **264330523321**
Status : **Answered**
Chosen Option : **1**

Q.5 दी गई श्रृंखला में निम्नलिखित में से कौन-सी संख्या प्रश्न चिन्ह (?) के स्थान पर आएगी?
47, 37, 29, 23, 19, ?

- Ans**
- 1. 14
 - 2. 15
 - 3. 16
 - 4. 17

Question Type : **MCQ**
Question ID : **264330133572**
Option 1 ID : **264330523313**
Option 2 ID : **264330523314**
Option 3 ID : **264330523312**
Option 4 ID : **264330523311**
Status : **Answered**
Chosen Option : **4**

Q.6 दी गई श्रृंखला में निम्नलिखित में से कौन-सी संख्या प्रश्न चिन्ह (?) के स्थान पर आएगी?
53, 54, 50, 59, 43, ?

- Ans
- 1. 18
 - 2. 61
 - 3. 58
 - 4. 68

Question Type : MCQ
Question ID : 264330133573
Option 1 ID : 264330523318
Option 2 ID : 264330523317
Option 3 ID : 264330523315
Option 4 ID : 264330523316
Status : Answered
Chosen Option : 4

Q.7 उस विकल्प को चुनिए जो तीसरे शब्द से ठीक उसी प्रकार संबंधित है जिस प्रकार दूसरा शब्द पहले शब्द से संबंधित है।
लैटिन : भाषा :: तलवारबाजी : ?

- Ans
- 1. स्थान
 - 2. खेल
 - 3. बीमारी
 - 4. वाहन

Question Type : MCQ
Question ID : 264330133563
Option 1 ID : 264330523278
Option 2 ID : 264330523275
Option 3 ID : 264330523277
Option 4 ID : 264330523276
Status : Answered
Chosen Option : 2

Q.8 उस विकल्प को चुनिए जो तीसरे शब्द से ठीक उसी प्रकार संबंधित है जिस प्रकार दूसरा शब्द पहले शब्द से संबंधित है।
बिल्ली : म्याऊँ :: पक्षी : ?

- Ans
- 1. कलरव (Chirp)
 - 2. फुफकार (Hiss)
 - 3. गुर्राणा (Growl)
 - 4. हिनहिनाना (Neigh)

Question Type : MCQ
Question ID : 264330133562
Option 1 ID : 264330523272
Option 2 ID : 264330523271
Option 3 ID : 264330523273
Option 4 ID : 264330523274
Status : Answered
Chosen Option : 1

Q.9 किसी एक खास कूट भाषा में, 'SLEEP' को 'TLEEQ' लिखा जाता है। उस भाषा में 'DROWSY' को कैसे लिखा जाएगा?

- Ans 1. EROWSZ
 2. ERWOSZ
 3. ERWOZS
 4. ROWSZQ

Question Type : MCQ

Question ID : 264330133451

Option 1 ID : 264330522837

Option 2 ID : 264330522836

Option 3 ID : 264330522838





Option 4 ID : 264330522835

Status : Answered

Chosen Option : 1

Q.10 दी गई आकृति के उस सही दर्पण प्रतिबिंब को चुनिए, जो नीचे दर्शाए गए अनुसार दर्पण को MN पर रखने पर बनेगा।

9 2 3 t K U
M
N

- Ans 1. 
 2. 
 3. 
 4. 

Question Type : MCQ

Question ID : 264330133484

Option 1 ID : 264330522969

Option 2 ID : 264330522967

Option 3 ID : 264330522970

Option 4 ID : 264330522968

Status : Answered

Chosen Option : 3

Q.11 किसी एक खास कूट भाषा में, 'MARS' को '51' लिखा जाता है और 'COLD' को '34' लिखा जाता है। उस कूट भाषा में 'ACID' को कैसे लिखा जाएगा?

- Ans 1. 16
 2. 19
 3. 17
 4. 18

Question Type : MCQ

Question ID : 264330133469

Option 1 ID : 264330522908

Option 2 ID : 264330522910

Option 3 ID : 264330522909

Option 4 ID : 264330522907

Status : Answered

Chosen Option : 3

Q.12 दी गई श्रृंखला में निम्नलिखित में से कौन-सा अक्षर समूह प्रश्न चिन्ह (?) के स्थान पर आएगा?
OD, LA, IX, FU, ?

- Ans 1. CR
 2. CS
 3. CT
 4. BR

Question Type : **MCQ**

Question ID : **264330133561**

Option 1 ID : **264330523268**

Option 2 ID : **264330523267**


Option 3 ID : **264330523270**

Option 4 ID : **264330523269**

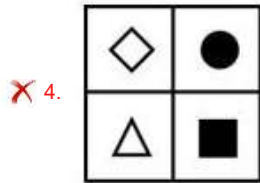
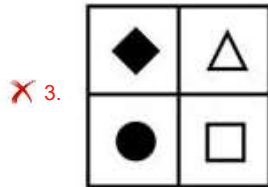
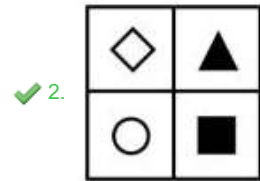
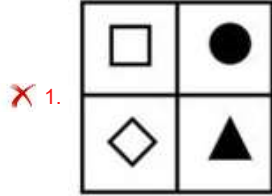
Status : **Answered**

Chosen Option : **1**

Q.13 उस विकल्प आकृति को चुनिए जो नीचे दी गई आकृति में पैटर्न को पूरा करने के लिए प्रश्न चिन्ह (?) के स्थान पर आएगी।



Ans



Question Type : MCQ

Question ID : 264330133580

Option 1 ID : 264330523346

Option 2 ID : 264330523343

Option 3 ID : 264330523345

Option 4 ID : 264330523344

Status : Answered

Chosen Option : 2

Q.14 दिए गए समीकरण को सही करने के लिए किन दो चिन्हों को आपस में बदला जाना चाहिए?

$$7 \times 2 + 4 - 6 \div 3 = 12$$

- Ans
- 1. - और =
 - 2. = और ×
 - 3. × और -
 - 4. - और +

Question Type : MCQ

Question ID : 264330133462

Option 1 ID : 264330522881

Option 2 ID : 264330522879

Option 3 ID : 264330522880

Option 4 ID : 264330522882

Status : Answered

Chosen Option : 4

Q.15 एक निश्चित कूट भाषा में, 'CROWNED' को 'OWRCEND' लिखा जाता है। उस भाषा में 'SERGENT' को कैसे लिखा जाएगा?

- Ans
- 1. REGSNET
 - 2. RGESNET
 - 3. REGSENT
 - 4. RGESENT

Question Type : MCQ

Question ID : 264330137564

Option 1 ID : 264330538865

Option 2 ID : 264330538863

Option 3 ID : 264330538864

Option 4 ID : 264330538866

Status : Answered

Chosen Option : 2

Q.16 दो कथन दिए गए हैं और दो निष्कर्ष I और II दिए गए हैं। कथनों को सत्य मानते हुए, चाहे वे सामान्यतः ज्ञात तथ्यों से अलग प्रतीत होते हों, निश्चय कीजिए कि कौन-सा निष्कर्ष तार्किक रूप से कथनों के अनुसार है।

कथन:

कोई खगोलशास्त्री, लंबा नहीं है।

कुछ लंबे, सुंदर हैं।

निष्कर्ष:

I. कुछ खगोलशास्त्री, सुंदर हैं।

II. कोई लंबा, खगोलशास्त्री नहीं है।

- Ans
- 1. न तो निष्कर्ष I और न ही II कथनों के अनुसार है।
 - 2. दोनों निष्कर्ष I और II कथनों के अनुसार हैं।
 - 3. केवल निष्कर्ष II कथनों के अनुसार है।
 - 4. केवल निष्कर्ष I कथनों के अनुसार है।

Question Type : MCQ

Question ID : 264330133570

Option 1 ID : 264330523306

Option 2 ID : 264330523305

Option 3 ID : 264330523304

Option 4 ID : 264330523303

Status : Answered

Chosen Option : 3

Q.17 नीचे दिए गए समीकरण में कौन-से गणितीय चिन्हों को आपस में बदला जाना चाहिए जिससे यह समीकरण गणितीय रूप से सही हो जाएगा?

$$6 \div 48 + 12 \times 9 - 7 = 35$$

Ans 1. \div और $+$

2. \times और $-$

3. \times और $+$

4. \div और \times

Question Type : **MCQ**

Question ID : **264330133576**

Option 1 ID : **264330523328**

Option 2 ID : **264330523330**

Option 3 ID : **264330523329**

Option 4 ID : **264330523327**

Status : **Answered**

Chosen Option : **1**

Q.18 Two Statements are given followed by two conclusions numbered I and II. Assuming the statements to be true, even if they seem to be at variance with commonly known facts, decide which of the conclusions logically follow(s) from the statements.

Statements:

All crows are birds.

Some parrots are birds.

Conclusions:

I. No crow is a parrot.

II. Some crows are parrots.

Ans 1. Only conclusion II follows.

2. Only conclusion I follows.

3. Either conclusion I or II follows.

4. Both conclusions I and II follow.

Question Type : **MCQ**

Question ID : **264330133571**

Option 1 ID : **264330523308**

Option 2 ID : **264330523307**

Option 3 ID : **264330523310**

Option 4 ID : **264330523309**

Status : **Answered**

Chosen Option : **3**

Q.19 एक परीक्षा भवन में सात छात्र अयान, चंदन, जतिन, कनिका, नैना, पिंकी और स्वीटी एक पंक्ति में उत्तर की ओर मुख करके बैठे हैं, परंतु जरूरी नहीं है कि वे इसी क्रम में बैठें हों। चंदन, स्वीटी के दाएँ से तीसरे स्थान पर बैठा है। अयान और पिंकी चंदन के निकटतम पड़ोसी हैं। पिंकी और स्वीटी के बीच दो से अधिक छात्र बैठे हैं। जतिन नैना का एकमात्र पड़ोसी है। जतिन अयान के दाईं ओर बैठा है। कनिका के सापेक्ष नैना का स्थान कौन-सा है?

- Ans
- 1. दाएँ से तीसरा
 - 2. दाएँ से पाँचवाँ
 - 3. बाएँ से पाँचवाँ
 - 4. बाएँ से तीसरा

Question Type : MCQ
Question ID : 264330133568
Option 1 ID : 264330523295
Option 2 ID : 264330523296
Option 3 ID : 264330523298
Option 4 ID : 264330523297
Status : Answered
Chosen Option : 2

Q.20 पाँच लड़कियाँ अंजली, बीना, चिट्टू, दीक्षा और श्रुति की आयु अलग-अलग हैं। अंजली केवल दीक्षा और श्रुति से छोटी है। श्रुति दीक्षा से छोटी है। चिट्टू सबसे छोटी है। समूह में चौथी सबसे बड़ी कौन है?

- Ans
- 1. दीक्षा
 - 2. बीना
 - 3. चिट्टू
 - 4. श्रुति

Question Type : MCQ
Question ID : 264330133569
Option 1 ID : 264330523302
Option 2 ID : 264330523299
Option 3 ID : 264330523301
Option 4 ID : 264330523300
Status : Answered
Chosen Option : 2

Section : General Awareness

Q.1 National Family Benefit Scheme was started in August _____ by Government of India.

- Ans
- 1. 1995
 - 2. 2000
 - 3. 2005
 - 4. 2002

Question Type : MCQ
Question ID : 264330137748
Option 1 ID : 264330539601
Option 2 ID : 264330539602
Option 3 ID : 264330539600
Option 4 ID : 264330539599
Status : Not Answered
Chosen Option : --

Q.2 सैम की वार्षिक आय 9 लाख रुपए है। वित्त वर्ष 2021-22 की आयकर स्लैब दरों (Income Tax Slab Rates) की नई व्यवस्था के अनुसार उसकी आय पर भारत का कौन-सा टैक्स स्लैब (नई व्यवस्था) लागू होगा?

- Ans
- ✓ 1. 15%
 - ✗ 2. 10%
 - ✗ 3. 20%
 - ✗ 4. 5%

Question Type : MCQ

Question ID : 264330133930

Option 1 ID : 264330524745

Option 2 ID : 264330524743

Option 3 ID : 264330524744

Option 4 ID : 264330524746

Status : Answered

Chosen Option : 1

Q.3 भारत के उपराष्ट्रपति का पद कितने वर्षों का होता है?

- Ans
- ✗ 1. तीन
 - ✓ 2. पाँच
 - ✗ 3. चार
 - ✗ 4. छः

Question Type : MCQ

Question ID : 264330134052

Option 1 ID : 264330525231

Option 2 ID : 264330525234

Option 3 ID : 264330525232

Option 4 ID : 264330525233

Status : Answered

Chosen Option : 2

Q.4 किस प्रकार के घर्षण को स्वयं-समायोजन बल (self-adjusting force) माना जाता है?

- Ans
- ✗ 1. अभिकेंद्र घर्षण
 - ✗ 2. लोटनिक घर्षण
 - ✗ 3. गतिज घर्षण
 - ✓ 4. स्थैतिक घर्षण

Question Type : MCQ

Question ID : 264330134036

Option 1 ID : 264330525169

Option 2 ID : 264330525167

Option 3 ID : 264330525168

Option 4 ID : 264330525170

Status : Answered

Chosen Option : 1

Q.5 पंडित लच्छू महाराज (Pandit Lachhu Maharaj) का संबंध मुख्य रूप से निम्नलिखित में से किस नृत्य से था?

- Ans
- 1. भरतनाट्यम
 - 2. ओडिसी
 - 3. कथक
 - 4. मणिपुरी

Question Type : MCQ

Question ID : 264330134033

Option 1 ID : 264330525157

Option 2 ID : 264330525156

Option 3 ID : 264330525155

Option 4 ID : 264330525158

Status : Answered

Chosen Option : 3

Q.6 मई 2022 तक, भारत में चीनी का सबसे बड़ा उत्पादक राज्य कौन-सा है?

- Ans
- 1. महाराष्ट्र
 - 2. तमिलनाडु
 - 3. उत्तरप्रदेश
 - 4. तेलंगाना

Question Type : MCQ

Question ID : 264330133915

Option 1 ID : 264330524684

Option 2 ID : 264330524685

Option 3 ID : 264330524683

Option 4 ID : 264330524686

Status : Answered

Chosen Option : 1

Q.7 SAI भारत की सर्वोच्च राष्ट्रीय खेल संस्था है। SAI का पूर्ण रूप क्या है?

- Ans
- 1. स्पोर्ट्स एकेडमी ऑफ इंडिया (Sports Academy of India)
 - 2. स्पोर्ट्स अथॉरिटी ऑफ इंडिया (Sports Authority of India)
 - 3. स्पोर्ट्स एसोसिएशन ऑफ इंडिया (Sports Association of India)
 - 4. स्पोर्ट्स एजेंसी ऑफ इंडिया (Sports Agency of India)

Question Type : MCQ

Question ID : 264330134053

Option 1 ID : 264330525236

Option 2 ID : 264330525237

Option 3 ID : 264330525238

Option 4 ID : 264330525235

Status : Answered

Chosen Option : 2

Q.8 2022 शीतकालीन ओलंपिक की मेजबानी किस शहर ने की है?

- Ans
- 1. मेलबर्न
 - 2. बीजिंग
 - 3. टोक्यो
 - 4. मिलान

Question Type : MCQ
Question ID : 264330134054
Option 1 ID : 264330525240
Option 2 ID : 264330525241
Option 3 ID : 264330525242
Option 4 ID : 264330525239
Status : Answered
Chosen Option : 2

Q.9 भारत के किस स्वतंत्रता सेनानी ने लखनऊ में 1857 के प्रसिद्ध विद्रोह (सिपाही विद्रोह) का नेतृत्व किया था?

- Ans
- 1. बेगम हजरत महल
 - 2. अल्लूरी सीताराम राजू
 - 3. रानी लक्ष्मी बाई
 - 4. कस्तूरबा गांधी

Question Type : MCQ
Question ID : 264330133921
Option 1 ID : 264330524709
Option 2 ID : 264330524708
Option 3 ID : 264330524707
Option 4 ID : 264330524710
Status : Answered
Chosen Option : 1

Q.10 गणगौर एक भारतीय त्योहार है जो प्रमुख रूप से _____ में मनाया जाता है।

- Ans
- 1. राजस्थान
 - 2. हिमाचल प्रदेश
 - 3. त्रिपुरा
 - 4. अरुणाचल प्रदेश

Question Type : MCQ
Question ID : 264330133934
Option 1 ID : 264330524760
Option 2 ID : 264330524761
Option 3 ID : 264330524759
Option 4 ID : 264330524762
Status : Answered
Chosen Option : 1

Q.11 भागीरथी नदी का उद्गम गौमुख हिमनद से होता है। यह देवप्रयाग में अलकनंदा से मिलकर _____ नदी बनाती है।

- Ans
- 1. रावी
 - 2. सरस्वती
 - 3. गंगा
 - 4. यमुना

Question Type : MCQ

Question ID : 264330134041

Option 1 ID : 264330525188

Option 2 ID : 264330525189

Option 3 ID : 264330525190

Option 4 ID : 264330525187

Status : Answered

Chosen Option : 3

Q.12 अक्टूबर 2022 में प्रधानमंत्री नरेंद्र मोदी द्वारा शुरू की गई "वन नेशन वन फर्टिलाइज़र (One Nation One Fertilizer)" योजना के तहत उस ब्रांड का नाम बताइए जिसके तहत ये सभी उर्वरक बेचे जाएंगे?

- Ans
- 1. भारती (Bharti)
 - 2. भारतीय (Bhartiya)
 - 3. भारत (Bharat)
 - 4. भारतवासी (Bharatwasi)

Question Type : MCQ

Question ID : 264330134031

Option 1 ID : 264330525150

Option 2 ID : 264330525148

Option 3 ID : 264330525147

Option 4 ID : 264330525149

Status : Answered

Chosen Option : 2

Q.13 21वीं सदी के किस प्रसिद्ध भारतीय लेखक ने 'मेलूहा के मृत्युंजय (शिव रचना त्रय) (The Immortals of Meluha (Shiva Trilogy))' उपन्यास लिखा था?

- Ans
- 1. शशि थरूर
 - 2. दुर्जोय दत्ता
 - 3. रविंदर सिंह
 - 4. अमीश त्रिपाठी

Question Type : MCQ

Question ID : 264330133923

Option 1 ID : 264330524716

Option 2 ID : 264330524717

Option 3 ID : 264330524715

Option 4 ID : 264330524718

Status : Answered

Chosen Option : 4

Q.14 अल्लूरी सीताराम राजू भारत के _____ राज्य के एक आदिवासी स्वतंत्रता सेनानी थे।

- Ans
- ✓ 1. आंध्रप्रदेश
 - ✗ 2. महाराष्ट्र
 - ✗ 3. गुजरात
 - ✗ 4. बिहार

Question Type : MCQ
Question ID : 264330133947
Option 1 ID : 264330524811
Option 2 ID : 264330524812
Option 3 ID : 264330524814
Option 4 ID : 264330524813
Status : Answered
Chosen Option : 1

Q.15 किसने भरतनाट्यम में 'पंडानल्लूर (Pandanallur) शैली' को लोकप्रिय बनाया और 2004 में पद्म भूषण प्राप्त किया?

- Ans
- ✗ 1. माधुरी दीक्षित
 - ✗ 2. कुमारी कमला (Kumari Kamala)
 - ✗ 3. मल्लिका साराभाई (Mallika Sarabhai)
 - ✓ 4. अलारमेल वल्ली (Alarmel Valli)

Question Type : MCQ
Question ID : 264330133925
Option 1 ID : 264330524724
Option 2 ID : 264330524723
Option 3 ID : 264330524725
Option 4 ID : 264330524726
Status : Answered
Chosen Option : 2

Q.16 _____ is the division of the cytoplasm of one eukaryotic cell into two daughter cells.

- Ans
- ✗ 1. Genesis
 - ✗ 2. Karyokinesis
 - ✗ 3. Sepsis
 - ✓ 4. Cytokinesis

Question Type : MCQ
Question ID : 264330134037
Option 1 ID : 264330525173
Option 2 ID : 264330525171
Option 3 ID : 264330525174
Option 4 ID : 264330525172
Status : Answered
Chosen Option : 4

Q.17 विंड वेन (Wind vane) यंत्र _____ निर्धारित करता है।

- Ans
- 1. सापेक्षिक आर्द्रता
 - 2. पवन का वेग
 - 3. ताप
 - 4. पवन की दिशा

Question Type : MCQ
Question ID : 264330134039
Option 1 ID : 264330525181
Option 2 ID : 264330525180
Option 3 ID : 264330525182
Option 4 ID : 264330525179
Status : Answered
Chosen Option : 4

Q.18 उस्ताद बिस्मिल्लाह खां _____ के सबसे महान प्रतिपादकों में से एक थे।

- Ans
- 1. सितार
 - 2. शहनाई
 - 3. तबला
 - 4. बांसुरी

Question Type : MCQ
Question ID : 264330134049
Option 1 ID : 264330525222
Option 2 ID : 264330525221
Option 3 ID : 264330525220
Option 4 ID : 264330525219
Status : Answered
Chosen Option : 2

Q.19 भारतीय अंटार्कटिक विधेयक, 2022 भारत के _____ मंत्रालय से संबंधित है।

- Ans
- 1. विदेशी मामले
 - 2. पृथ्वी विज्ञान
 - 3. कानून और न्याय
 - 4. जनजातीय मामले

Question Type : MCQ
Question ID : 264330133907
Option 1 ID : 264330524651
Option 2 ID : 264330524653
Option 3 ID : 264330524654
Option 4 ID : 264330524652
Status : Answered
Chosen Option : 2

Q.20 भारतीय संविधान का कौन-सा अनुच्छेद समान नागरिक संहिता (uniform civil code) की बात करता है?

- Ans
- ✓ 1. अनुच्छेद 44
 - ✗ 2. अनुच्छेद 352
 - ✗ 3. अनुच्छेद 370
 - ✗ 4. अनुच्छेद 14

Question Type : MCQ

Question ID : 264330134051

Option 1 ID : 264330525228

Option 2 ID : 264330525230

Option 3 ID : 264330525229

Option 4 ID : 264330525227

Status : Answered

Chosen Option : 1

Q.21 कौन-सा भारतीय राज्य बौद्ध गुफा मंदिरों का घर है, जिन्हें बराबर गुफाओं (Barabar Caves) के नाम से जाना जाता है?

- Ans
- ✗ 1. पश्चिम बंगाल
 - ✓ 2. बिहार
 - ✗ 3. उत्तरप्रदेश
 - ✗ 4. सिक्किम

Question Type : MCQ

Question ID : 264330133910

Option 1 ID : 264330524665

Option 2 ID : 264330524663

Option 3 ID : 264330524664

Option 4 ID : 264330524666

Status : Answered

Chosen Option : 2

Q.22 निम्नलिखित में से कौन(130-150 ई.) भारत में एक शक शासक था?

- Ans
- ✗ 1. पांडुका
 - ✗ 2. बिन्दुसार
 - ✓ 3. रुद्रदामन
 - ✗ 4. चशताना

Question Type : MCQ

Question ID : 264330133944

Option 1 ID : 264330524800

Option 2 ID : 264330524799

Option 3 ID : 264330524801

Option 4 ID : 264330524802

Status : Not Answered

Chosen Option : --

Q.23 विभिन्न स्तरों पर विभिन्न प्रजातियों के ऊर्ध्वधर वितरण (Vertical distribution) को _____ कहते हैं।

- Ans
- 1. अपघटन (decomposition)
 - 2. जैव आवर्धन (biomagnification)
 - 3. सहविकास (coevolution)
 - 4. स्तर विन्या (stratification)

Question Type : MCQ
Question ID : 264330134038
Option 1 ID : 264330525177
Option 2 ID : 264330525176
Option 3 ID : 264330525178
Option 4 ID : 264330525175
Status : Answered
Chosen Option : 4

Q.24 वर्ष 2011 की जनगणना के अनुसार, भारत में शहरी जनसंख्या का प्रतिशत _____ है।

- Ans
- 1. 31.16
 - 2. 35.6
 - 3. 21.6
 - 4. 25.6

Question Type : MCQ
Question ID : 264330133900
Option 1 ID : 264330524625
Option 2 ID : 264330524626
Option 3 ID : 264330524623
Option 4 ID : 264330524624
Status : Answered
Chosen Option : 3

Q.25 निम्नलिखित में से कौन मुगल बादशाह शाहजहाँ का पुत्र था?

- Ans
- 1. सिकंदर लोधी
 - 2. जहाँगीर
 - 3. हुमायूँ
 - 4. औरंगज़ेब

Question Type : MCQ
Question ID : 264330134045
Option 1 ID : 264330525205
Option 2 ID : 264330525206
Option 3 ID : 264330525203
Option 4 ID : 264330525204
Status : Answered
Chosen Option : 4

Q.1 Select the most appropriate option to fill in the blank.
Disturbing emotions begin to build into fear, and then _____.

- Ans**
- 1. boldness
 - 2. server
 - 3. assurance
 - 4. terror

Question Type : **MCQ**
Question ID : **264330134422**
Option 1 ID : **264330526665**
Option 2 ID : **264330526666**
Option 3 ID : **264330526663**
Option 4 ID : **264330526664**
Status : **Answered**
Chosen Option : **4**

Q.2 Select the most appropriate option to substitute the bracketed segment in the given sentence. If there is no need to substitute it, select 'no substitution required'.
The Yoruba was (one of the west African city-state culture).

- Ans**
- 1. No substitution required
 - 2. one of a west African city-state cultures
 - 3. one of the west's African city-state culture
 - 4. one of the west African city-state cultures

Question Type : **MCQ**
Question ID : **264330136087**
Option 1 ID : **264330533162**
Option 2 ID : **264330533160**
Option 3 ID : **264330533161**
Option 4 ID : **264330533159**
Status : **Answered**
Chosen Option : **4**

Q.3 Choose the word that means the same as the given word.
Consecutive

- Ans**
- 1. Executive
 - 2. Important
 - 3. Organized
 - 4. Successive

Question Type : **MCQ**
Question ID : **264330134441**
Option 1 ID : **264330526735**
Option 2 ID : **264330526736**
Option 3 ID : **264330526738**
Option 4 ID : **264330526737**
Status : **Answered**
Chosen Option : **4**

Q.4 In the following question, out of the given four alternatives, select the alternative which best expresses the meaning of the Idiom/Phrase.
To scratch one's head

- Ans
- 1. To come up with an idea
 - 2. To think hard in a puzzled way
 - 3. To lose all the wealth
 - 4. To think about good days

Question Type : **MCQ**
Question ID : **264330134522**
Option 1 ID : **264330527050**
Option 2 ID : **264330527047**
Option 3 ID : **264330527048**
Option 4 ID : **264330527049**
Status : **Answered**
Chosen Option : **1**

Q.5 Choose the sentence with no spelling error.

- Ans
- 1. You are going to figure out everything.
 - 2. You are going to figrue out everything.
 - 3. You are going to figure out everything.
 - 4. You are going to figre out everything.

Question Type : **MCQ**
Question ID : **264330134421**
Option 1 ID : **264330526661**
Option 2 ID : **264330526662**
Option 3 ID : **264330526660**
Option 4 ID : **264330526659**
Status : **Answered**
Chosen Option : **3**

Q.6 Select the appropriate synonym for the underlined word.
The story shows the importance of self-esteem.

- Ans
- 1. pride
 - 2. humility
 - 3. disgrace
 - 4. shyness

Question Type : **MCQ**
Question ID : **264330134518**
Option 1 ID : **264330527031**
Option 2 ID : **264330527034**
Option 3 ID : **264330527033**
Option 4 ID : **264330527032**
Status : **Answered**
Chosen Option : **1**

Q.7 Choose the incorrectly spelt word.

- Ans 1. Molest
 2. Called
 3. Reflect
 4. Temparory

Question Type : **MCQ**
Question ID : **264330134524**
Option 1 ID : **264330527058**
Option 2 ID : **264330527057**
Option 3 ID : **264330527056**
Option 4 ID : **264330527055**
Status : **Answered**
Chosen Option : **4**

Q.8 A sentence has been given with a blank to be filled with an appropriate option. Choose the correct alternative.

I bowed to him, but he _____ not to see me.

- Ans 1. seems
 2. seeming
 3. seemed
 4. seemingly

Question Type : **MCQ**
Question ID : **264330134508**
Option 1 ID : **264330526996**
Option 2 ID : **264330526998**
Option 3 ID : **264330526995**
Option 4 ID : **264330526997**
Status : **Answered**
Chosen Option : **3**

Q.9 Improve the underlined part of the sentence. Choose 'No improvement' as an answer if the sentence is grammatically correct.

The Tagore House is rehearsing a skit for the school's Annual Day Function.

- Ans 1. was rehearse a skit
 2. No improvement
 3. is rehearsed an skit
 4. has been rehearsing a skits

Question Type : **MCQ**
Question ID : **264330134507**
Option 1 ID : **264330526992**
Option 2 ID : **264330526994**
Option 3 ID : **264330526991**
Option 4 ID : **264330526993**
Status : **Answered**
Chosen Option : **4**

Q.10 Select the most appropriate option to fill in the blank.
The researcher team took air _____ from the room every five minutes to rule out the possibility of a virus.

- Ans 1. samples
 2. droops
 3. slices
 4. instances

Question Type : **MCQ**
Question ID : **264330134527**
Option 1 ID : **264330527067**
Option 2 ID : **264330527070**
Option 3 ID : **264330527069**
Option 4 ID : **264330527068**
Status : **Answered**
Chosen Option : 1

Q.11 Choose the word that can substitute the given group of words.
A person who does not believe in God

- Ans 1. Iconoclast
 2. Highbrow
 3. Atheist
 4. Lecher

Question Type : **MCQ**
Question ID : **264330134516**
Option 1 ID : **264330527024**
Option 2 ID : **264330527026**
Option 3 ID : **264330527023**
Option 4 ID : **264330527025**
Status : **Answered**
Chosen Option : 3

Q.12 Select the appropriate antonym for the underlined word.
I stare out into the really amazingly dark night.

- Ans 1. unusually
 2. obviously
 3. shockingly
 4. astonishingly

Question Type : **MCQ**
Question ID : **264330134521**
Option 1 ID : **264330527046**
Option 2 ID : **264330527044**
Option 3 ID : **264330527045**
Option 4 ID : **264330527043**
Status : **Answered**
Chosen Option : 2

Q.13 A sentence has been given with a blank to be filled with an appropriate option. Choose the correct alternative.

Meteorologists are still _____ to understand sting jets.

- Ans
- 1. works
 - 2. on work
 - 3. worked
 - 4. working

Question Type : **MCQ**

Question ID : **264330134431**

Option 1 ID : **264330526699**

Option 2 ID : **264330526701**

Option 3 ID : **264330526702**

Option 4 ID : **264330526700**

Status : **Answered**

Chosen Option : **4**

Q.14 In the following question, out of the given four alternatives, select the alternative which best expresses the meaning of the Idiom/Phrase.
Know the ropes

- Ans
- 1. To reveal a secret
 - 2. To fight without any reason
 - 3. To understand the details
 - 4. To break the rules

Question Type : **MCQ**

Question ID : **264330134523**

Option 1 ID : **264330527054**

Option 2 ID : **264330527053**

Option 3 ID : **264330527051**

Option 4 ID : **264330527052**

Status : **Answered**

Chosen Option : **3**

Q.15 Choose the word that is opposite in meaning to the given word.
Surrender

- Ans
- 1. Waive
 - 2. Stay
 - 3. Withstand
 - 4. Calm

Question Type : **MCQ**

Question ID : **264330134390**

Option 1 ID : **264330526542**

Option 2 ID : **264330526539**

Option 3 ID : **264330526541**

Option 4 ID : **264330526540**

Status : **Answered**

Chosen Option : **1**

Q.16 Identify the segment that contains a grammatical error. If there is no error, select 'No error'.
Her evaluation will give / me a best indication of / where I stand in the class.

- Ans**
- 1. Her evaluation will give
 - 2. me a best indication of
 - 3. where I stand in the class.
 - 4. No error

Question Type : **MCQ**
Question ID : **264330136084**
Option 1 ID : **264330533147**
Option 2 ID : **264330533148**
Option 3 ID : **264330533149**
Option 4 ID : **264330533150**
Status : **Answered**
Chosen Option : **2**

Q.17 Find the part of the given sentence that has an error in it. If there is no error, choose 'No error'.
Their should be Lokpal to check corruption by the bureaucrats and politicians.

- Ans**
- 1. No error
 - 2. the bureaucrats and politicians.
 - 3. check corruption by
 - 4. Their should be Lokpal to

Question Type : **MCQ**
Question ID : **264330134504**
Option 1 ID : **264330526982**
Option 2 ID : **264330526981**
Option 3 ID : **264330526980**
Option 4 ID : **264330526979**
Status : **Answered**
Chosen Option : **2**

Q.18 Find the part of the given sentence that has an error in it. If there is no error, choose 'No error'.
Can you please pass me that glittery pen black?

- Ans**
- 1. pass me that
 - 2. glittery pen black?
 - 3. No error
 - 4. Can you please

Question Type : **MCQ**
Question ID : **264330134321**
Option 1 ID : **264330526276**
Option 2 ID : **264330526277**
Option 3 ID : **264330526278**
Option 4 ID : **264330526275**
Status : **Answered**
Chosen Option : **2**

Q.19 Improve the underlined part of the sentence. Choose 'No improvement' as an answer if the sentence is grammatically correct.

The teacher let the students choose there essay topics.

- Ans
- 1. has choose their
 - 2. No improvement
 - 3. choose their
 - 4. chosen there

Question Type : **MCQ**

Question ID : **264330134401**

Option 1 ID : **264330526584**

Option 2 ID : **264330526586**

Option 3 ID : **264330526583**

Option 4 ID : **264330526585**

Status : **Answered**

Chosen Option : **3**

Q.20 Choose the word that can substitute the given group of words.

Someone who knows a lot about the arts, food, drink, or some other subject

- Ans
- 1. Connoisseur
 - 2. Gourmand
 - 3. Cynic
 - 4. Pacifist

Question Type : **MCQ**

Question ID : **264330134517**

Option 1 ID : **264330527027**

Option 2 ID : **264330527029**

Option 3 ID : **264330527028**

Option 4 ID : **264330527030**

Status : **Answered**

Chosen Option : **2**

Comprehension:

In the following passage some of the words have been deleted. Read the passage carefully and select the correct answer for the given blank out of the four alternatives.

With Halloween only (1) _____ days away, I thought this was a perfect time to talk (2) _____ Zombies. For years, zombies have dominated science (3) _____. These creatures, the walking dead, don't (4) _____ exist, right? Wrong! There are in fact several very real life diseases that could and can make you (5) _____ like a zombie.

SubQuestion No : 21

Q.21 Select the most appropriate option to fill in blank number 1.

- Ans
- 1. a little
 - 2. a few
 - 3. much
 - 4. little

Question Type : **MCQ**

Question ID : **264330134381**

Option 1 ID : **264330526506**

Option 2 ID : **264330526503**

Option 3 ID : **264330526505**

Option 4 ID : **264330526504**

Status : **Answered**

Chosen Option : **2**

Comprehension:

In the following passage some of the words have been deleted. Read the passage carefully and select the correct answer for the given blank out of the four alternatives.

With Halloween only (1) _____ days away, I thought this was a perfect time to talk (2) _____ Zombies. For years, zombies have dominated science (3) _____. These creatures, the walking dead, don't (4) _____ exist, right? Wrong! There are in fact several very real life diseases that could and can make you (5) _____ like a zombie.

SubQuestion No : 22**Q.22** Select the most appropriate option to fill in blank number 2.**Ans** ✓ 1. about~~✗~~ 2. for~~✗~~ 3. by~~✗~~ 4. ofQuestion Type : **MCQ**Question ID : **264330134382**Option 1 ID : **264330526509**Option 2 ID : **264330526508**Option 3 ID : **264330526507**Option 4 ID : **264330526510**Status : **Answered**Chosen Option : **1****Comprehension:**

In the following passage some of the words have been deleted. Read the passage carefully and select the correct answer for the given blank out of the four alternatives.

With Halloween only (1) _____ days away, I thought this was a perfect time to talk (2) _____ Zombies. For years, zombies have dominated science (3) _____. These creatures, the walking dead, don't (4) _____ exist, right? Wrong! There are in fact several very real life diseases that could and can make you (5) _____ like a zombie.

SubQuestion No : 23**Q.23** Select the most appropriate option to fill in blank number 3.**Ans** ✗ 1. freelance~~✗~~ 2. friction~~✗~~ 3. fickle

✓ 4. fictions

Question Type : **MCQ**Question ID : **264330134383**Option 1 ID : **264330526511**Option 2 ID : **264330526514**Option 3 ID : **264330526512**Option 4 ID : **264330526513**Status : **Answered**Chosen Option : **1**

Comprehension:

In the following passage some of the words have been deleted. Read the passage carefully and select the correct answer for the given blank out of the four alternatives.

With Halloween only (1) _____ days away, I thought this was a perfect time to talk (2) _____ Zombies. For years, zombies have dominated science (3) _____. These creatures, the walking dead, don't (4) _____ exist, right? Wrong! There are in fact several very real life diseases that could and can make you (5) _____ like a zombie.

SubQuestion No : 24

Q.24 Select the most appropriate option to fill in blank number 4.

- Ans 1. manually
 2. suddenly
 3. gladly
 4. actually

Question Type : **MCQ**

Question ID : **264330134384**

Option 1 ID : **264330526517**

Option 2 ID : **264330526515**

Option 3 ID : **264330526518**

Option 4 ID : **264330526516**

Status : **Answered**

Chosen Option : **4**

Comprehension:

In the following passage some of the words have been deleted. Read the passage carefully and select the correct answer for the given blank out of the four alternatives.

With Halloween only (1) _____ days away, I thought this was a perfect time to talk (2) _____ Zombies. For years, zombies have dominated science (3) _____. These creatures, the walking dead, don't (4) _____ exist, right? Wrong! There are in fact several very real life diseases that could and can make you (5) _____ like a zombie.

SubQuestion No : 25

Q.25 Select the most appropriate option to fill in blank number 5.

- Ans 1. act
 2. slake
 3. run
 4. state

Question Type : **MCQ**

Question ID : **264330134385**

Option 1 ID : **264330526520**

Option 2 ID : **264330526519**

Option 3 ID : **264330526521**

Option 4 ID : **264330526522**

Status : **Answered**

Chosen Option : **1**

Multi Tasking Non Technical Staff and Havaladar CBIC and CBN Examination 2022

Roll Number	KD Job Updates
Candidate Name	KD Job Updates
Venue Name	Translam Group of Institutions
Exam Date	15/05/2023
Exam Time	12:00 PM - 2:00 PM
Subject	MTS Non Tech Havaladar CBIC and CBN Examination 2022

Section : Numerical and Mathematical Ability

Q.1 हल कीजिए : $\left[\left(\frac{144}{12} \right) + (43 \times 3) \right] + 45 - 20 \times 3$

- Ans
- 1. 156
 - 2. 126
 - 3. 111
 - 4. 127

Question Type : MCQ

Question ID : 264330135086

Option 1 ID : 264330529282

Option 2 ID : 264330529281

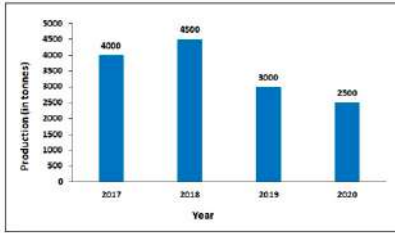
Option 3 ID : 264330529279

Option 4 ID : 264330529280

Status : Answered

Chosen Option : 2

Q.2 निम्नलिखित आलेख में 4 क्रमागत वर्षों में रागी के उत्पादन को दर्शाया गया है। किस वर्ष रागी का उत्पादन सर्वाधिक था?



Production (in tonnes) - उत्पादन (टन में), Year - वर्ष

- Ans
- 1. 2019
 - 2. 2020
 - 3. 2017
 - 4. 2018

Question Type : MCQ

Question ID : 264330135104

Option 1 ID : 264330529353

Option 2 ID : 264330529354

Option 3 ID : 264330529351

Option 4 ID : 264330529352

Status : Answered

Chosen Option : 4

Q.3 यदि A, B से 20 प्रतिशत कम है, तो B, A से कितने प्रतिशत अधिक है?

- Ans
- ✓ 1. 25 प्रतिशत
 - ✗ 2. 50 प्रतिशत
 - ✗ 3. 20 प्रतिशत
 - ✗ 4. 33.33 प्रतिशत

Question Type : MCQ
Question ID : 264330135048
Option 1 ID : 264330529129
Option 2 ID : 264330529127
Option 3 ID : 264330529130
Option 4 ID : 264330529128
Status : Answered
Chosen Option : 1

Q.4 एक धनराशि 12 वर्ष में स्वयं की दोगुनी हो जाती है। साधारण ब्याज का वार्षिक दर प्रतिशत ज्ञात कीजिए।

- Ans
- ✗ 1. 11.11%
 - ✓ 2. 8.33%
 - ✗ 3. 6.25%
 - ✗ 4. 9.09%

Question Type : MCQ
Question ID : 264330135076
Option 1 ID : 264330529241
Option 2 ID : 264330529239
Option 3 ID : 264330529240
Option 4 ID : 264330529242
Status : Answered
Chosen Option : 2

Q.5 एक खिलौने का अंकित मूल्य 100 रुपए है और विक्रय मूल्य 80 रुपए है। बड़ा प्रतिशत की गणना कीजिए।

- Ans
- ✓ 1. 20 %
 - ✗ 2. 10 %
 - ✗ 3. 30 %
 - ✗ 4. 40 %

Question Type : MCQ
Question ID : 264330135095
Option 1 ID : 264330529316
Option 2 ID : 264330529315
Option 3 ID : 264330529317
Option 4 ID : 264330529318
Status : Answered
Chosen Option : 1

Q.6 एक धनराशि साधारण ब्याज पर 20 प्रतिशत वार्षिक दर पर 4 वर्ष में Rs.5400 हो जाती है। वह धनराशि क्या है?

- Ans
- 1. Rs.2500
 - 2. Rs.2000
 - 3. Rs.4000
 - 4. Rs.3000

Question Type : MCQ

Question ID : 264330135053

Option 1 ID : 264330529150

Option 2 ID : 264330529149

Option 3 ID : 264330529147

Option 4 ID : 264330529148

Status : Answered

Chosen Option : 4

Q.7 12 पुरुष प्रतिदिन 4 घंटे कार्य करके एक कार्य को 6 दिनों में पूरा कर सकते हैं। यदि 4 पुरुष प्रतिदिन 8 घंटे कार्य करें, तो यही कार्य कितने दिनों में पूरा होगा?

- Ans
- 1. 10 दिन
 - 2. 8 दिन
 - 3. 6 दिन
 - 4. 9 दिन

Question Type : MCQ

Question ID : 264330137874

Option 1 ID : 264330540104

Option 2 ID : 264330540106

Option 3 ID : 264330540105

Option 4 ID : 264330540103

Status : Answered

Chosen Option : 4

Q.8 एक व्यक्ति शुरुआती 15 km की दूरी 60 मिनट में और अगले 24 km की दूरी 30 मिनट में तय करता है। पूरी यात्रा में उसकी औसत चाल क्या है?

- Ans
- 1. 26 km/hr
 - 2. 29 km/hr
 - 3. 33 km/hr
 - 4. 23 km/hr

Question Type : MCQ

Question ID : 264330137179

Option 1 ID : 264330537362

Option 2 ID : 264330537361

Option 3 ID : 264330537359

Option 4 ID : 264330537360

Status : Answered

Chosen Option : 1

Q.9 एक धनराशि साधारण ब्याज पर 3 वर्ष में Rs. 610 और 4 वर्ष में Rs. 650 हो जाती है। वह धनराशि है:

- Ans
- 1. Rs. 610
 - 2. Rs. 570
 - 3. Rs. 490
 - 4. Rs. 550

Question Type : MCQ

Question ID : 264330135097

Option 1 ID : 264330529325

Option 2 ID : 264330529323

Option 3 ID : 264330529326

Option 4 ID : 264330529324

Status : Answered

Chosen Option : 3

Q.10 एक अर्धगोले की त्रिज्या 5 cm है। आयतन ज्ञात कीजिए।

- Ans
- 1. 261.9 cm³
 - 2. 150.6 cm³
 - 3. 330.4 cm³
 - 4. 117.9 cm³

Question Type : MCQ

Question ID : 264330135432

Option 1 ID : 264330530635

Option 2 ID : 264330530638

Option 3 ID : 264330530637

Option 4 ID : 264330530636

Status : Answered

Chosen Option : 1

Q.11 प्रथम 10 प्राकृत संख्याओं का औसत क्या है?

- Ans
- 1. 5
 - 2. 10
 - 3. 10.5
 - 4. 5.5

Question Type : MCQ

Question ID : 264330135089

Option 1 ID : 264330529292

Option 2 ID : 264330529291

Option 3 ID : 264330529294

Option 4 ID : 264330529293

Status : Answered

Chosen Option : 4

Q.12 एक पंक्ति में बैठे चार छात्रों में से अंतिम तीन छात्रों की औसत आयु 48 वर्ष है और पहले तीन छात्रों की औसत आयु 50 वर्ष है। यदि पहले छात्र की आयु 56 वर्ष है, तो अंतिम छात्र की आयु कितनी है?

- Ans**
- ✓ 1. 50 वर्ष
 - ✗ 2. 60 वर्ष
 - ✗ 3. 30 वर्ष
 - ✗ 4. 40 वर्ष

Question Type : **MCQ**

Question ID : **264330137325**

Option 1 ID : **264330537930**

Option 2 ID : **264330537928**

Option 3 ID : **264330537927**

Option 4 ID : **264330537929**

Status : **Answered**

Chosen Option : **1**

Q.13 यदि दो बेलनों की ऊँचाइयों का अनुपात 7 : 9 है और उनके व्यासों का अनुपात 6 : 7 है, तो बेलनों के आयतनों का अनुपात कितना है?

- Ans**
- ✓ 1. 4 : 7
 - ✗ 2. 6 : 7
 - ✗ 3. 5 : 9
 - ✗ 4. 7 : 9

Question Type : **MCQ**

Question ID : **264330137887**

Option 1 ID : **264330540156**

Option 2 ID : **264330540157**

Option 3 ID : **264330540158**

Option 4 ID : **264330540155**

Status : **Answered**

Chosen Option : **1**

Q.14 नीचे दी गई तालिका में पाँच कक्षाओं में अलग-अलग खेल खेलने वाले विद्यार्थियों की संख्या को दर्शाया गया है।

कक्षा	खेल		
	A	B	C
6वीं	30	50	70
7वीं	60	20	35
8वीं	40	10	90
9वीं	38	26	50
10वीं	25	32	20

निम्नलिखित में से कौन-सा कथन सही है?

- I. 9वीं कक्षा में A और B खेल खेलने वाले विद्यार्थियों की औसत संख्या 32 है।
- II. 8वीं कक्षा में A और C खेल खेलने वाले विद्यार्थियों की औसत संख्या 75 है।
- III. 10वीं कक्षा में तीनों खेल खेलने वाले विद्यार्थियों की कुल संख्या 77 है।

Ans

- ✓ 1. I और III
✗ 2. II और III
✗ 3. I, II और III
✗ 4. I और II

Question Type : MCQ

Question ID : 264330135062

Option 1 ID : 264330529185

Option 2 ID : 264330529184

Option 3 ID : 264330529186

Option 4 ID : 264330529183

Status : Answered

Chosen Option : 1

Q.15 यदि एक दुकानदार एक वस्तु को Rs. 4673 में बेचता है जिसका क्रय मूल्य Rs. 3456 था, तो दुकानदार का लाभ ज्ञात कीजिए

Ans

- ✓ 1. Rs. 1217
✗ 2. Rs. 1345
✗ 3. Rs. 1237
✗ 4. Rs. 1456

Question Type : MCQ

Question ID : 264330135094

Option 1 ID : 264330529311

Option 2 ID : 264330529313

Option 3 ID : 264330529312

Option 4 ID : 264330529314

Status : Answered

Chosen Option : 1

Q.16 एक बाल्टी में 40 लाल गेंदें और 120 नीली गेंदें हैं। बाल्टी में लाल और नीली गेंदों का अनुपात है:

- Ans 1. 1:3
 2. 2:3
 3. 3:4
 4. 1:4

Question Type : MCQ
Question ID : 264330135096
Option 1 ID : 264330529320
Option 2 ID : 264330529321
Option 3 ID : 264330529322
Option 4 ID : 264330529319
Status : Answered
Chosen Option : 1

Q.17 $9 \times 121 + 11 \times 84 \div 4$ का मान क्या है?

- Ans 1. 1240
 2. 1230
 3. 1340
 4. 1320

Question Type : MCQ
Question ID : 264330139012
Option 1 ID : 264330544657
Option 2 ID : 264330544655
Option 3 ID : 264330544658
Option 4 ID : 264330544656
Status : Answered
Chosen Option : 4

Q.18 एक आदमी A से B तक 200 kmph की चाल से जाता है और 300 kmph की चाल से A तक वापस आता है। पूरी यात्रा के लिए उसकी औसत चाल ज्ञात कीजिये?

- Ans 1. 345 kmph
 2. 240 kmph
 3. 264 kmph
 4. 340 kmph

Question Type : MCQ
Question ID : 264330135100
Option 1 ID : 264330529337
Option 2 ID : 264330529336
Option 3 ID : 264330529338
Option 4 ID : 264330529335
Status : Answered
Chosen Option : 2

Q.19 A अकेले किसी काम को 60 दिनों में कर सकता है और B अकेले उसी काम को A द्वारा लिए गए समय से 33.33% कम समय में कर सकता है। B द्वारा अकेले काम को पूरा करने में लिया गया समय ज्ञात कीजिए।

- Ans
- 1. 30 दिन
 - 2. 22 दिन
 - 3. 40 दिन
 - 4. 17 दिन

Question Type : MCQ
Question ID : 264330133790
Option 1 ID : 264330524183
Option 2 ID : 264330524185
Option 3 ID : 264330524184
Option 4 ID : 264330524186
Status : Answered
Chosen Option : 3

Q.20 पंकज एक वस्तु बेचकर 55 प्रतिशत का लाभ अर्जित करता है। वस्तु के क्रय मूल्य और विक्रय मूल्य का अनुपात क्या होगा?

- Ans
- 1. 20 : 37
 - 2. 17 : 25
 - 3. 18 : 25
 - 4. 20 : 31

Question Type : MCQ
Question ID : 264330137609
Option 1 ID : 264330539045
Option 2 ID : 264330539043
Option 3 ID : 264330539046
Option 4 ID : 264330539044
Status : Answered
Chosen Option : 4

Section : Reasoning Ability and Problem Solving

Q.1 दिए गए पैटर्न का ध्यानपूर्वक अध्ययन कीजिए और उस संख्या को चुनिए जो इसमें प्रश्न चिन्ह (?) के स्थान पर आ सकती है?

प्रथम पंक्ति- 7, 343, 49
द्वितीय पंक्ति- 6, 216, 36
तृतीय पंक्ति- 5, 125, ?

- Ans
- 1. 45
 - 2. 25
 - 3. 85
 - 4. 30

Question Type : MCQ
Question ID : 264330134992
Option 1 ID : 264330528904
Option 2 ID : 264330528905
Option 3 ID : 264330528906
Option 4 ID : 264330528903
Status : Answered
Chosen Option : 2

Q.2 एक निश्चित कूट भाषा में, 'DARK' को 'ECSM' लिखा जाता है और 'TREE' को 'UTFG' लिखा जाता है। उस भाषा में 'GAME' को कैसे लिखा जाएगा?

- Ans
- 1. HCNH
 - 2. HCNF
 - 3. HCNG
 - 4. HCMG

Question Type : MCQ

Question ID : 264330133509

Option 1 ID : 264330523070

Option 2 ID : 264330523067

Option 3 ID : 264330523069

Option 4 ID : 264330523068

Status : Answered

Chosen Option : 3

Q.3 दिए गए समीकरण को सही करने के लिए किन दो चिन्हों को आपस में बदला जाना चाहिए?
 $13 - 25 = 5 + 4 \div 12$

- Ans
- 1. + और -
 - 2. + और =
 - 3. - और =
 - 4. \div और =

Question Type : MCQ

Question ID : 264330134993

Option 1 ID : 264330528910

Option 2 ID : 264330528907

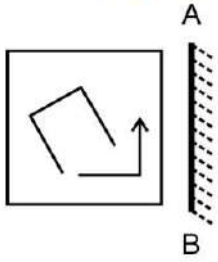
Option 3 ID : 264330528908

Option 4 ID : 264330528909

Status : Answered

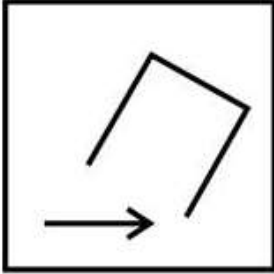
Chosen Option : 4

Q.4 दी गई आकृति के उस सही दर्पण प्रतिबिंब को चुनिए जो दर्पण AB को आकृति के दाईं ओर रखने पर बनेगा ।

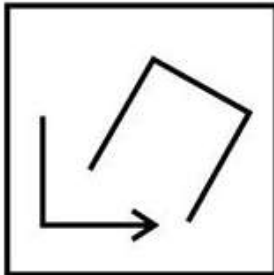


Ans

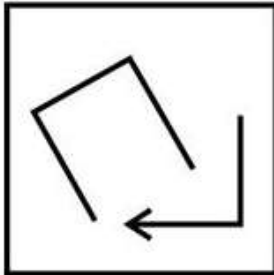
✗ 1.



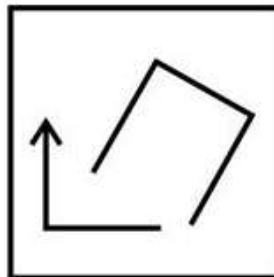
✗ 2.



✗ 3.



✓ 4.



Question Type : MCQ

Question ID : 264330134952

Option 1 ID : 264330528743

Option 2 ID : 264330528746

Option 3 ID : 264330528744

Option 4 ID : 264330528745

Status : Answered

Chosen Option : 4

Q.5 छः महिलाएँ अनु, प्रीति, आरती, कीर्ति, पूनम और सुमन एक वृत्ताकार मेज पर केंद्र की ओर मुख करके बैठी हैं। प्रीति, पूनम के सम्मुख बैठी है। पूनम, कीर्ति और अनु के ठीक बीच में बैठी है। आरती, अनु के ठीक दाएँ पर बैठी है। प्रीति के ठीक दाएँ पर कौन बैठा है?

Ans ✓ 1. सुमन

✗ 2. आरती

✗ 3. कीर्ति

✗ 4. अनु

Question Type : **MCQ**

Question ID : **264330134984**

Option 1 ID : **264330528874**

Option 2 ID : **264330528872**

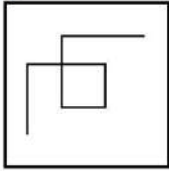
Option 3 ID : **264330528873**

Option 4 ID : **264330528871**

Status : **Answered**

Chosen Option : **1**

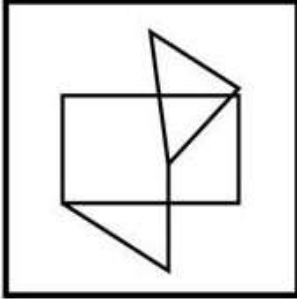
Q.6 उस विकल्प आकृति को चुनिए जिसमें दी गई आकृति (X) उसके भाग के रूप में निहित है (पूर्ण की अनुमति नहीं है)।



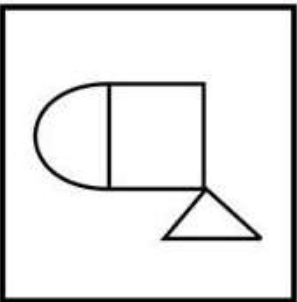
(X)

Ans


✗ 1.



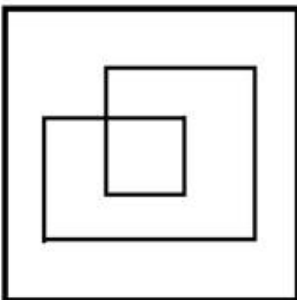
✗ 2.



✗ 3.



✓ 4.



Question Type : MCQ

Question ID : 264330134951

Option 1 ID : 264330528739

Option 2 ID : 264330528740

Option 3 ID : 264330528742

Option 4 ID : 264330528741

Status : Answered

Chosen Option : 4

Q.7 उस विकल्प को चुनिए जो तीसरे अक्षर से ठीक उसी तरह संबंधित है जिस तरह दूसरी संख्या पहले अक्षर से संबंधित है।

R : 324 :: 1 : ?

- Ans
- 1. 100
 - 2. 99
 - 3. 81
 - 4. 64

Question Type : MCQ

Question ID : 264330134978

Option 1 ID : 264330528850

Option 2 ID : 264330528848

Option 3 ID : 264330528847

Option 4 ID : 264330528849

Status : Answered

Chosen Option : 3

Q.8 एक निश्चित कूट भाषा में, 'JOCKEY' को 'KCJYOE' लिखा जाता है। उस भाषा में 'EXCISE' को कैसे लिखा जाएगा?

- Ans
- 1. ICEXES
 - 2. ICEEXS
 - 3. CLEXDE
 - 4. EEICSX

Question Type : MCQ

Question ID : 264330137836

Option 1 ID : 264330539954

Option 2 ID : 264330539953

Option 3 ID : 264330539951

Option 4 ID : 264330539952

Status : Answered

Chosen Option : 2

Q.9 तीन कथन दिए गए हैं और दो निष्कर्ष I और II दिए गए हैं। कथनों को सत्य मानते हुए, चाहे वे सामान्यतः ज्ञात तथ्यों से अलग प्रतीत होते हों, निश्चय कीजिए कि कौन-सा निष्कर्ष तार्किक रूप से कथनों के अनुसार है।
कथन:

कोई भी छड़ी, बस नहीं है।

सभी विद्यालय, बसें हैं।

सभी बसें, बहादुर हैं।

निष्कर्ष:

I. कोई भी छड़ी, बहादुर नहीं है।

II. सभी विद्यालय, बहादुर हैं।

Ans

- ✓ 1. सिर्फ निष्कर्ष II कथनों के अनुसार है
- ✗ 2. सिर्फ निष्कर्ष I कथनों के अनुसार है
- ✗ 3. दोनों निष्कर्ष I और II कथनों के अनुसार है
- ✗ 4. निष्कर्ष I और II में से कोई भी कथनों के अनुसार नहीं है

Question Type : MCQ

Question ID : 264330134988

Option 1 ID : 264330528888

Option 2 ID : 264330528887

Option 3 ID : 264330528889

Option 4 ID : 264330528890

Status : Answered

Chosen Option : 1

Q.10 दिए गए समीकरण को सही करने के लिए किन दो चिन्हों को आपस में बदला जाना चाहिए?

$$9 \times 4 + 6 \div 3 - 5 = 39$$

Ans

- ✗ 1. \times और $+$
- ✓ 2. $-$ और $+$
- ✗ 3. \div और $-$
- ✗ 4. $-$ और $=$

Question Type : MCQ

Question ID : 264330134972

Option 1 ID : 264330528826

Option 2 ID : 264330528823

Option 3 ID : 264330528825

Option 4 ID : 264330528824

Status : Answered

Chosen Option : 2

Q.11 Select the option that is related to the third word in the same way as the second word is related to the first word.

Fruit : Pomegranate :: Mammal : ?

- Ans
- 1. Lizard
 - 2. Dog
 - 3. Pigeon
 - 4. Snake

Question Type : MCQ

Question ID : 264330134979

Option 1 ID : 264330528853

Option 2 ID : 264330528851

Option 3 ID : 264330528854

Option 4 ID : 264330528852

Status : Answered

Chosen Option : 2

Q.12 एक निश्चित कूट भाषा में, 'WIFE' को '172' लिखा जाता है और 'CAT' को '72' लिखा जाता है। उस भाषा में 'SON' को कैसे लिखा जाएगा?

- Ans
- 1. 241
 - 2. 244
 - 3. 141
 - 4. 144

Question Type : MCQ

Question ID : 264330137586

Option 1 ID : 264330538954

Option 2 ID : 264330538953

Option 3 ID : 264330538952

Option 4 ID : 264330538951

Status : Answered

Chosen Option : 4

Q.13 दो कथन दिए गए हैं और दो निष्कर्ष I और II दिए गए हैं। कथनों को सत्य मानते हुए, चाहे वे सामान्यतः ज्ञात तथ्यों से अलग प्रतीत होते हों, निश्चय कीजिए कि कौन-सा निष्कर्ष तार्किक रूप से कथनों के अनुसार है।

कथन:

कोई पेन, कागज़ नहीं है।

सभी कागज़, पेंसिल हैं।

निष्कर्ष:

I. कुछ पेन, पेंसिल हैं।

II. सभी पेंसिल, पेन हैं।

- Ans
- 1. सिर्फ निष्कर्ष I कथनों के अनुसार है
 - 2. सिर्फ निष्कर्ष II कथनों के अनुसार है
 - 3. दोनों निष्कर्ष I और II कथनों के अनुसार है
 - 4. निष्कर्ष I और II में से कोई भी कथनों के अनुसार नहीं है

Question Type : MCQ

Question ID : 264330134987

Option 1 ID : 264330528883

Option 2 ID : 264330528884

Option 3 ID : 264330528885

Option 4 ID : 264330528886

Status : Answered

Chosen Option : 4

Q.14 दी गई श्रृंखला में निम्नलिखित में से कौन-सा अक्षर-समूह प्रश्न चिन्ह (?) के स्थान पर आएगा?
CX, EV, GT, IR, KP, ?

- Ans
- 1. QR
 - 2. MK
 - 3. LN
 - 4. MN

Question Type : MCQ
Question ID : 264330134976
Option 1 ID : 264330528839
Option 2 ID : 264330528841
Option 3 ID : 264330528842
Option 4 ID : 264330528840
Status : Answered
Chosen Option : 4

Q.15 एक निश्चित कूट भाषा में, 'VOTED' को '76218' लिखा जाता है, 'WIDER' को '08759' लिखा जाता है, 'ADORE' को '79382' लिखा जाता है। उस कूट भाषा में 'ART' को कैसे लिखा जाएगा?

- Ans
- 1. 397
 - 2. 396
 - 3. 395
 - 4. 387

Question Type : MCQ
Question ID : 264330137372
Option 1 ID : 264330538118
Option 2 ID : 264330538117
Option 3 ID : 264330538116
Option 4 ID : 264330538115
Status : Not Answered
Chosen Option : --

Q.16 पाँच मित्र टैम, टैन, टैप, टैब और टैट एक कतार में उत्तर की ओर मुख करके खड़े हैं। टैम, टैन के पीछे खड़ा है। टैप, टैट के ठीक पीछे खड़ा है। टैट और टैम के बीच केवल एक मित्र खड़ा है। टैब, टैम के ठीक पीछे खड़ा है। टैब कतार में सबसे पीछे खड़ा है। कतार में सबसे आगे कौन खड़ा है?

- Ans
- 1. टैन
 - 2. टैट
 - 3. टैम
 - 4. टैप

Question Type : MCQ
Question ID : 264330134985
Option 1 ID : 264330528878
Option 2 ID : 264330528875
Option 3 ID : 264330528876
Option 4 ID : 264330528877
Status : Answered
Chosen Option : 1

Q.17 सात लड़कों I, II, III, IV, V, VI और VII में प्रत्येक की उम्र अलग-अलग है। V केवल II से बड़ा है। I, केवल VI से छोटा है। III चार अन्य लड़कों से बड़ा है। VII, IV से छोटा है। लड़कों में चौथा सबसे बड़ा कौन है?

- Ans
- 1. III
 - 2. IV
 - 3. I
 - 4. II

Question Type : MCQ
Question ID : 264330134986
Option 1 ID : 264330528880
Option 2 ID : 264330528881
Option 3 ID : 264330528882
Option 4 ID : 264330528879
Status : Answered
Chosen Option : 2

Q.18 दी गई श्रृंखला में निम्नलिखित में से कौन-सी संख्या प्रश्न चिन्ह (?) के स्थान पर आएगी?
27, 32, 42, 57, 77, 102, 132, ?

- Ans
- 1. 158
 - 2. 172
 - 3. 149
 - 4. 167

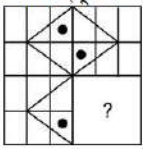
Question Type : MCQ
Question ID : 264330134990
Option 1 ID : 264330528896
Option 2 ID : 264330528897
Option 3 ID : 264330528898
Option 4 ID : 264330528895
Status : Answered
Chosen Option : 4

Q.19 दी गई श्रृंखला में निम्नलिखित में से कौन-सी संख्या प्रश्न चिन्ह (?) के स्थान पर आएगी?
88, 92, 97, 103, 110, 118, ?

- Ans
- 1. 219
 - 2. 217
 - 3. 127
 - 4. 117

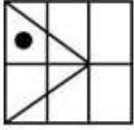
Question Type : MCQ
Question ID : 264330134945
Option 1 ID : 264330528718
Option 2 ID : 264330528715
Option 3 ID : 264330528717
Option 4 ID : 264330528716
Status : Answered
Chosen Option : 3

Q.20 उस विकल्प आकृति को चुनिए जो नीचे दी गई आकृति में पैटर्न को पूरा करने के लिए प्रश्न चिन्ह (?) के स्थान पर आएगी। (घूर्णन की अनुमति नहीं है)।

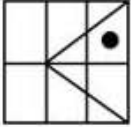


Ans

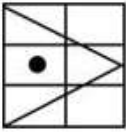
✓ 1.



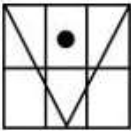
✗ 2.



✗ 3.



✗ 4.



Question Type : MCQ

Question ID : 264330134997

Option 1 ID : 264330528926

Option 2 ID : 264330528924

Option 3 ID : 264330528925

Option 4 ID : 264330528923

Status : Answered

Chosen Option : 1

Section : General Awareness

Q.1 ब्रिटिश संसद ने सन् _____ में ईस्ट इंडिया कंपनी के सारे अधिकार ब्रिटिश साम्राज्य के हाथ में सौंप दिए।

Ans ✗ 1. 1919

✓ 2. 1858

✗ 3. 1773

✗ 4. 1909

Question Type : MCQ

Question ID : 264330134617

Option 1 ID : 264330527426

Option 2 ID : 264330527424

Option 3 ID : 264330527423

Option 4 ID : 264330527425

Status : Answered

Chosen Option : 2

Q.2 'द गॉड ऑफ स्मॉल थिंग्स (The God of Small Things)' उपन्यास का लेखक कौन है?

- Ans
- ✓ 1. अरुंधति राय
 - ✗ 2. खुशवंत सिंह
 - ✗ 3. किरण देसाई
 - ✗ 4. अरविंद अडिगा

Question Type : MCQ

Question ID : 264330134599

Option 1 ID : 264330527354

Option 2 ID : 264330527352

Option 3 ID : 264330527351

Option 4 ID : 264330527353

Status : Answered

Chosen Option : 1

Q.3 International year of freshwater was observed in which year?

- Ans
- ✗ 1. 2000
 - ✗ 2. 2001
 - ✗ 3. 2002
 - ✓ 4. 2003

Question Type : MCQ

Question ID : 264330134634

Option 1 ID : 264330527491

Option 2 ID : 264330527492

Option 3 ID : 264330527493

Option 4 ID : 264330527494

Status : Answered

Chosen Option : 1

Q.4 निम्नलिखित में से कौन-सा भारत में नोट जारी करने वाला एकमात्र प्राधिकारी है?

- Ans
- ✗ 1. भारतीय राष्ट्रीय भुगतान निगम
 - ✗ 2. भारतीय औद्योगिक वित्त निगम
 - ✓ 3. भारतीय रिजर्व बैंक
 - ✗ 4. भारतीय स्टेट बैंक

Question Type : MCQ

Question ID : 264330137968

Option 1 ID : 264330540481

Option 2 ID : 264330540482

Option 3 ID : 264330540479

Option 4 ID : 264330540480

Status : Answered

Chosen Option : 3

Q.5 भारतीय संविधान की निम्नलिखित में से कौन-सी विशेषता ब्रिटेन के संविधान से ली गई थी?

- Ans
- 1. समवर्ती सूची
 - 2. राज्य के नीति निर्देशक सिद्धांत
 - 3. मंत्रिमंडलीय व्यवस्था
 - 4. मौलिक कर्तव्य

Question Type : MCQ
Question ID : 264330134664
Option 1 ID : 264330527613
Option 2 ID : 264330527612
Option 3 ID : 264330527611
Option 4 ID : 264330527614
Status : Answered
Chosen Option : 3

Q.6 सन् 1983 का क्रिकेट विश्व कप निम्नलिखित में से किस देश में आयोजित किया गया था?

- Ans
- 1. ऑस्ट्रेलिया
 - 2. भारत
 - 3. वेस्टइंडीज
 - 4. इंग्लैंड

Question Type : MCQ
Question ID : 264330134597
Option 1 ID : 264330527343
Option 2 ID : 264330527346
Option 3 ID : 264330527345
Option 4 ID : 264330527344
Status : Answered
Chosen Option : 4

Q.7 भारतीय संविधान के अनुच्छेद 243-1 के तहत राज्य के राज्यपाल को प्रत्येक _____ वर्षों के बाद एक वित्त आयोग का गठन करना होता है।

- Ans
- 1. छः
 - 2. तीन
 - 3. पाँच
 - 4. दस

Question Type : MCQ
Question ID : 264330134665
Option 1 ID : 264330527617
Option 2 ID : 264330527616
Option 3 ID : 264330527615
Option 4 ID : 264330527618
Status : Answered
Chosen Option : 3

Q.8 उत्तराखंड के गढ़वाल क्षेत्र में दूसरा सबसे ऊँचा पर्वत कौन-सा है?

- Ans
- ✗ 1. नीलकंठ (Nilkantha)
 - ✗ 2. नंदा देवी (Nanda Devi)
 - ✗ 3. मेरु (Meru)
 - ✓ 4. कामेट (Kamet)

Question Type : MCQ
Question ID : 264330134654
Option 1 ID : 264330527574
Option 2 ID : 264330527572
Option 3 ID : 264330527573
Option 4 ID : 264330527571
Status : Answered
Chosen Option : 4

Q.9 किस प्रसिद्ध भारतीय ओडिसी नृत्यांगना/नर्तक को वर्ष 2000 में भारत के दूसरे सर्वोच्च नागरिक पुरस्कार पद्म विभूषण से सम्मानित किया गया था?

- Ans
- ✗ 1. सुनंदा नायर
 - ✗ 2. दर्शना झवेरी
 - ✗ 3. रुक्मिणी देवी अरुंडेल
 - ✓ 4. केलुचरण महापात्र

Question Type : MCQ
Question ID : 264330137963
Option 1 ID : 264330540461
Option 2 ID : 264330540459
Option 3 ID : 264330540460
Option 4 ID : 264330540462
Status : Answered
Chosen Option : 4

Q.10 निम्नलिखित में से किसने मैक्सिकन फॉर्मूला 1 ग्रां प्री 2022 जीता है?

- Ans
- ✗ 1. लैंडो नॉरिस (Lando Norris)
 - ✗ 2. कार्लोस सैंज जूनियर (Carlos Sainz Jr.)
 - ✓ 3. मैक्स वेस्ट्राप्पेन (Max Verstappen)
 - ✗ 4. चार्ल्स लेक्लर (Charles Leclerc)

Question Type : MCQ
Question ID : 264330134666
Option 1 ID : 264330527622
Option 2 ID : 264330527620
Option 3 ID : 264330527619
Option 4 ID : 264330527621
Status : Answered
Chosen Option : 3

Q.11 भारत किस पड़ोसी देश के साथ सुंदरबन वन साझा करता है?

- Ans
- ✓ 1. बांग्लादेश
 - ✗ 2. चीन
 - ✗ 3. नेपाल
 - ✗ 4. पाकिस्तान

Question Type : MCQ
Question ID : 264330137906
Option 1 ID : 264330540234
Option 2 ID : 264330540233
Option 3 ID : 264330540232
Option 4 ID : 264330540231
Status : Answered
Chosen Option : 1

Q.12 'चरकुला (Charkula)' निम्नलिखित में से किस राज्य से संबंधित एक प्रसिद्ध नृत्य शैली है?

- Ans
- ✗ 1. तमिलनाडु
 - ✗ 2. त्रिपुरा
 - ✗ 3. आंध्रप्रदेश
 - ✓ 4. उत्तरप्रदेश

Question Type : MCQ
Question ID : 264330134646
Option 1 ID : 264330527541
Option 2 ID : 264330527540
Option 3 ID : 264330527539
Option 4 ID : 264330527542
Status : Answered
Chosen Option : 4

Q.13 2022 तक, भारत दुनिया में गेहूँ का _____ सबसे बड़ा उत्पादक है।

- Ans
- ✗ 1. चौथा
 - ✗ 2. तीसरा
 - ✓ 3. दूसरा
 - ✗ 4. पाँचवाँ

Question Type : MCQ
Question ID : 264330137953
Option 1 ID : 264330540421
Option 2 ID : 264330540420
Option 3 ID : 264330540419
Option 4 ID : 264330540422
Status : Answered
Chosen Option : 3

Q.14 "होला मोहल्ला (Hola Mohalla)" का त्यौहार किस समुदाय द्वारा मनाया जाता है?

- Ans
- 1. पारसी
 - 2. जैन
 - 3. बौद्ध
 - 4. सिख

Question Type : MCQ

Question ID : 264330134620

Option 1 ID : 264330527438

Option 2 ID : 264330527435

Option 3 ID : 264330527436

Option 4 ID : 264330527437

Status : Not Answered

Chosen Option : --

Q.15 साहित्य में 2022 का नोबेल पुरस्कार किसे मिला?

- Ans
- 1. पीटर हैंडके (Peter Handke)
 - 2. अब्दुलराज़क गुरनाह (Abdulrazak Gurnah)
 - 3. एनी एरनॉक्स (Annie Ernaux)
 - 4. ओल्गा टोकार्कज़ुक (Olga Tokarczuk)

Question Type : MCQ

Question ID : 264330134602

Option 1 ID : 264330527366

Option 2 ID : 264330527365

Option 3 ID : 264330527364

Option 4 ID : 264330527363

Status : Answered

Chosen Option : 2

Q.16 गुरु वेम्पति चिन्ना सत्यम को वर्ष 1998 में निम्नलिखित में से कौन-सा पुरस्कार मिला था?

- Ans
- 1. भारत रत्न
 - 2. पद्म श्री
 - 3. पद्म भूषण
 - 4. पद्म विभूषण

Question Type : MCQ

Question ID : 264330134601

Option 1 ID : 264330527360

Option 2 ID : 264330527361

Option 3 ID : 264330527359

Option 4 ID : 264330527362

Status : Answered

Chosen Option : 3

Q.17 2022 में किस मंत्रालय ने 'काशी तमिल संगमम (Kashi Tamil Sangamam)' नामक महीने भर चलने वाले एक कार्यक्रम का आयोजन किया था?

- Ans
- 1. जनजातीय कार्य मंत्रालय
 - 2. शिक्षा मंत्रालय
 - 3. विदेश मंत्रालय
 - 4. संस्कृति मंत्रालय

Question Type : MCQ
Question ID : 264330134644
Option 1 ID : 264330527532
Option 2 ID : 264330527531
Option 3 ID : 264330527533
Option 4 ID : 264330527534
Status : Answered
Chosen Option : 4

Q.18 निम्नलिखित में से किसने 2022 के राष्ट्रमंडल खेलों में भारोत्तोलन में स्वर्ण पदक जीता?

- Ans
- 1. विकास ठाकुर
 - 2. साइखोम मीराबाई चानू
 - 3. बिंदियारानी देवी
 - 4. संकेत सागर

Question Type : MCQ
Question ID : 264330134623
Option 1 ID : 264330527450
Option 2 ID : 264330527447
Option 3 ID : 264330527449
Option 4 ID : 264330527448
Status : Answered
Chosen Option : 2

Q.19 Which among the following statements is incorrect?

- Ans
- 1. Chromosomes are composed of DNA and Protein.
 - 2. Cell wall is present in animals.
 - 3. Mitochondria are known as the powerhouse of the cell.
 - 4. Cell membrane is also called the plasma membrane.

Question Type : MCQ
Question ID : 264330134650
Option 1 ID : 264330527558
Option 2 ID : 264330527555
Option 3 ID : 264330527557
Option 4 ID : 264330527556
Status : Answered
Chosen Option : 2

Q.20 निम्नलिखित में से किस संगीतकार को 'सितार' बजाने के लिए जाना जाता है?

- Ans
- 1. सुरोजीत चटर्जी
 - 2. विलायत खाँ
 - 3. अली अकबर खाँ
 - 4. ज़ाकिर हुसैन

Question Type : MCQ

Question ID : 264330134662

Option 1 ID : 264330527605

Option 2 ID : 264330527603

Option 3 ID : 264330527604

Option 4 ID : 264330527606

Status : Answered

Chosen Option : 1

Q.21 पौधों को वृद्धि के लिए पोषक तत्वों की आवश्यकता होती है जिसकी आपूर्ति _____ द्वारा की जा सकती है।

- Ans
- 1. केवल मिट्टी और जल
 - 2. केवल मिट्टी
 - 3. केवल मिट्टी और वायु
 - 4. मिट्टी, जल और वायु

Question Type : MCQ

Question ID : 264330134607

Option 1 ID : 264330527384

Option 2 ID : 264330527383

Option 3 ID : 264330527385

Option 4 ID : 264330527386

Status : Answered

Chosen Option : 4

Q.22 निम्नलिखित में से कौन-सा संचारी रोगों का एक उदाहरण नहीं है?

- Ans
- 1. मधुमेह
 - 2. चेचक
 - 3. खाँसी-जुकाम
 - 4. क्षय रोग

Question Type : MCQ

Question ID : 264330134608

Option 1 ID : 264330527390

Option 2 ID : 264330527387

Option 3 ID : 264330527389

Option 4 ID : 264330527388

Status : Answered

Chosen Option : 1

Q.23 "द ब्लू अम्ब्रेला (The blue umbrella)" प्रसिद्ध भारतीय लेखक _____ द्वारा लिखित एक उपन्यास है।

Ans 1. रस्किन बॉन्ड

2. शरत चंद्र चट्टोपाध्याय

3. खुशवंत सिंह

4. अरुंधति राय

Question Type : MCQ

Question ID : 264330137961

Option 1 ID : 264330540454

Option 2 ID : 264330540453

Option 3 ID : 264330540451

Option 4 ID : 264330540452

Status : Answered

Chosen Option : 2

Q.24 _____ are formed when an opaque objects comes in the path of light.

Ans 1. Shadows

2. Mirror reflections

3. Transparent rays

4. Translucent rays

Question Type : MCQ

Question ID : 264330134610

Option 1 ID : 264330527395

Option 2 ID : 264330527396

Option 3 ID : 264330527397

Option 4 ID : 264330527398

Status : Answered

Chosen Option : 1

Q.25 2011 की जनगणना के अनुसार भारत में कुल प्रजनन दर (Total Fertility Rate) कितनी है? (अनुमानित सीमा प्रदान करें)

Ans 1. 3.1-3.9

2. 2.1-2.9

3. 4.1-4.9

4. 5.1-5.9

Question Type : MCQ

Question ID : 264330133967

Option 1 ID : 264330524892

Option 2 ID : 264330524891

Option 3 ID : 264330524893

Option 4 ID : 264330524894

Status : Answered

Chosen Option : 4

Q.1 Choose the word that can substitute the given group of words.

An exact copy of handwriting, printing

- Ans
- 1. Platitude
 - 2. Maiden
 - 3. Facsimile
 - 4. Potable

Question Type : MCQ
Question ID : 264330134786
Option 1 ID : 264330528087
Option 2 ID : 264330528090
Option 3 ID : 264330528089
Option 4 ID : 264330528088
Status : Marked For Review
Chosen Option : 4

Q.2 A sentence has been given with a blank to be filled with an appropriate option. Choose the correct alternative.

The storm passed _____, but the night remained warm.

- Ans
- 1. quicker
 - 2. quickest
 - 3. quickly
 - 4. quick

Question Type : MCQ
Question ID : 264330134777
Option 1 ID : 264330528056
Option 2 ID : 264330528055
Option 3 ID : 264330528058
Option 4 ID : 264330528057
Status : Answered
Chosen Option : 3

Q.3 Choose the word that means the same as the given word.

Arrogance

- Ans
- 1. Inhibition
 - 2. Diffidence
 - 3. Dominance
 - 4. Bashful

Question Type : MCQ
Question ID : 264330134762
Option 1 ID : 264330527997
Option 2 ID : 264330527996
Option 3 ID : 264330527995
Option 4 ID : 264330527998
Status : Answered
Chosen Option : 2

Q.4 Select the word segment that substitutes (replaces) the bracketed word segment correctly and completes the sentence meaningfully. Select the option 'no correction required' if the sentence is correct as given.

The tourists (rendered to the) museum on time.

- Ans**
- 1. occurred to the
 - 2. appeared at the
 - 3. arrived at the
 - 4. No correction required

Question Type : **MCQ**
Question ID : **264330136243**
Option 1 ID : **264330533760**
Option 2 ID : **264330533759**
Option 3 ID : **264330533761**
Option 4 ID : **264330533762**
Status : **Answered**
Chosen Option : **3**

Q.5 Select the most appropriate option to fill in the blank.

The priest puts some _____ water on the child's head.

- Ans**
- 1. holy
 - 2. wholly
 - 3. hairy
 - 4. haughty

Question Type : **MCQ**
Question ID : **264330134743**
Option 1 ID : **264330527924**
Option 2 ID : **264330527925**
Option 3 ID : **264330527923**
Option 4 ID : **264330527926**
Status : **Answered**
Chosen Option : **1**

Q.6 Choose the sentence with no spelling error.

- Ans**
- 1. He stood outside the bathroom door.
 - 2. He stuod outside the bathroom door.
 - 3. He stood outside the bathrum door.
 - 4. He stood outside the bathroom door.

Question Type : **MCQ**
Question ID : **264330134742**
Option 1 ID : **264330527921**
Option 2 ID : **264330527919**
Option 3 ID : **264330527920**
Option 4 ID : **264330527922**
Status : **Answered**
Chosen Option : **4**

Q.7 Improve the underlined part of the sentence. Choose 'No improvement' as an answer if the sentence is grammatically correct.

The number of homes with running watered has been rising sharply since 1985.

- Ans**
- 1. with run water
 - 2. with running water
 - 3. No improvement
 - 4. of ran watered

Question Type : **MCQ**
Question ID : **264330134802**
Option 1 ID : **264330528151**
Option 2 ID : **264330528152**
Option 3 ID : **264330528154**
Option 4 ID : **264330528153**
Status : **Answered**
Chosen Option : **2**

Q.8 Find the part of the given sentence that has an error in it. If there is no error, choose 'No error'.

Black holes can has powerful effects on their surroundings.

- Ans**
- 1. No error
 - 2. Black holes can
 - 3. on their surroundings.
 - 4. has powerful effects

Question Type : **MCQ**
Question ID : **264330134425**
Option 1 ID : **264330526678**
Option 2 ID : **264330526675**
Option 3 ID : **264330526677**
Option 4 ID : **264330526676**
Status : **Answered**
Chosen Option : **4**

Q.9 Choose the word that is opposite in meaning to the given word.

Lordly

- Ans**
- 1. Arrogant
 - 2. Saucy
 - 3. Ignoble
 - 4. Despair

Question Type : **MCQ**
Question ID : **264330134763**
Option 1 ID : **264330527999**
Option 2 ID : **264330528001**
Option 3 ID : **264330528000**
Option 4 ID : **264330528002**
Status : **Answered**
Chosen Option : **3**

Q.10 Select the appropriate antonym for the underlined word.

The freedom to browse a secure and accountable online space will be compromised.

- Ans**
- 1. liable
 - 2. irresponsible
 - 3. amicable
 - 4. indebted

Question Type : **MCQ**
Question ID : **264330134790**
Option 1 ID : **264330528103**
Option 2 ID : **264330528105**
Option 3 ID : **264330528106**
Option 4 ID : **264330528104**
Status : **Answered**
Chosen Option : **3**

Q.11 A sentence has been given with a blank to be filled with an appropriate option. Choose the correct alternative.

Oak trees do not use leaves to make food _____ the winter.

- Ans**
- 1. by
 - 2. while
 - 3. during
 - 4. within

Question Type : **MCQ**
Question ID : **264330134752**
Option 1 ID : **264330527959**
Option 2 ID : **264330527961**
Option 3 ID : **264330527960**
Option 4 ID : **264330527962**
Status : **Answered**
Chosen Option : **3**

Q.12 In the following question, out of the given four alternatives, select the alternative which best expresses the meaning of the Idiom/Phrase.

Dead men's shoes

- Ans**
- 1. Making oneself available for all the tasks being assigned
 - 2. Job that one takes over from somebody who has left unexpectedly or died
 - 3. A career where a lot of cheques are signed
 - 4. Acquiring the wealth of a dead man through malpractices

Question Type : **MCQ**
Question ID : **264330134792**
Option 1 ID : **264330528111**
Option 2 ID : **264330528113**
Option 3 ID : **264330528112**
Option 4 ID : **264330528114**
Status : **Answered**
Chosen Option : **1**

Q.13 Improve the underlined part of the sentence. Choose 'No improvement' as an answer if the sentence is grammatically correct.

Richard Dawkins written the foreword to the second edition of the book.

- Ans
- 1. wrote the foreword
 - 2. No improvement
 - 3. write the foreword
 - 4. will wrote the foreword

Question Type : MCQ

Question ID : 264330134453

Option 1 ID : 264330526784

Option 2 ID : 264330526786

Option 3 ID : 264330526783

Option 4 ID : 264330526785

Status : Answered

Chosen Option : 1

Q.14 Choose the word that can substitute the given group of words.

One who hates war, loves peace

- Ans
- 1. Fatalist
 - 2. Pacifist
 - 3. Conformist
 - 4. Desecrater

Question Type : MCQ

Question ID : 264330134733

Option 1 ID : 264330527884

Option 2 ID : 264330527886

Option 3 ID : 264330527885

Option 4 ID : 264330527883

Status : Answered

Chosen Option : 2

Q.15 Identify the segment that contains a grammatical error. If there is no error, select 'No error'.

Before he could devote many more / thought to the matter, Pranav / had stepped up to him.

- Ans
- 1. No error
 - 2. had stepped up to him.
 - 3. thought to the matter, Pranav
 - 4. Before he could devote many more

Question Type : MCQ

Question ID : 264330136240

Option 1 ID : 264330533750

Option 2 ID : 264330533749

Option 3 ID : 264330533748

Option 4 ID : 264330533747

Status : Answered

Chosen Option : 2

Q.16 Find the part of the given sentence that has an error in it. If there is no error, choose 'No error'.

No matter how mountains are formed, they eventually becomes too heavy and succumb to gravity.

- Ans**
- 1. formed, they eventually becomes
 - 2. too heavy and succumb to gravity.
 - 3. No error
 - 4. No matter how mountains are

Question Type : **MCQ**
Question ID : **264330134773**
Option 1 ID : **264330528040**
Option 2 ID : **264330528041**
Option 3 ID : **264330528042**
Option 4 ID : **264330528039**
Status : **Answered**
Chosen Option : **1**

Q.17 Select the appropriate synonym for the underlined word.

There is no need to attack our guest.

- Ans**
- 1. adore
 - 2. assault
 - 3. generate
 - 4. mark

Question Type : **MCQ**
Question ID : **264330134787**
Option 1 ID : **264330528092**
Option 2 ID : **264330528093**
Option 3 ID : **264330528094**
Option 4 ID : **264330528091**
Status : **Answered**
Chosen Option : **2**

Q.18 In the following question, out of the given four alternatives, select the alternative which best expresses the meaning of the Idiom/Phrase.

The lion's share

- Ans**
- 1. To lose a big amount of money
 - 2. Life with no regrets
 - 3. Big success
 - 4. The largest portion

Question Type : **MCQ**
Question ID : **264330134739**
Option 1 ID : **264330527910**
Option 2 ID : **264330527908**
Option 3 ID : **264330527909**
Option 4 ID : **264330527907**
Status : **Answered**
Chosen Option : **4**

Q.19 Select the most appropriate option to fill in the blank.

Unless you complete your school education, you cannot get yourself _____ into a college.

- Ans**
- 1. enrolled
 - 2. accommodated
 - 3. advanced
 - 4. mopped

Question Type : **MCQ**
Question ID : **264330134796**
Option 1 ID : **264330528127**
Option 2 ID : **264330528128**
Option 3 ID : **264330528129**
Option 4 ID : **264330528130**
Status : **Answered**
Chosen Option : 1

Q.20 Choose the incorrectly spelt word.

- Ans**
- 1. Gang
 - 2. Stupid
 - 3. Boring
 - 4. Maintaen

Question Type : **MCQ**
Question ID : **264330134793**
Option 1 ID : **264330528116**
Option 2 ID : **264330528117**
Option 3 ID : **264330528115**
Option 4 ID : **264330528118**
Status : **Answered**
Chosen Option : 4

Comprehension:

In the following passage some of the words have been deleted. Read the passage carefully and select the correct answer for the given blank out of the four alternatives.

In a gallery at the Metropolitan Museum of Art (1) _____ New York, paintings of a father and daughter (2) _____ face to face. Larger than life, the monumental portraits (3) _____ competing conceptions of royal power. The father, Henry VIII, (4) _____ directly at the viewer, conveying aggression through his wide stance, bulging leg muscles and (5) _____ padded clothing.

SubQuestion No : 21

Q.21 Select the most appropriate option to fill in blank number 1.

- Ans**
- 1. on
 - 2. to
 - 3. at
 - 4. in

Question Type : **MCQ**
Question ID : **264330134754**
Option 1 ID : **264330527964**
Option 2 ID : **264330527963**
Option 3 ID : **264330527966**
Option 4 ID : **264330527965**
Status : **Answered**
Chosen Option : 4

Comprehension:

In the following passage some of the words have been deleted. Read the passage carefully and select the correct answer for the given blank out of the four alternatives.

In a gallery at the Metropolitan Museum of Art (1) _____ New York, paintings of a father and daughter (2) _____ face to face. Larger than life, the monumental portraits (3) _____ competing conceptions of royal power. The father, Henry VIII, (4) _____ directly at the viewer, conveying aggression through his wide stance, bulging leg muscles and (5) _____ padded clothing.

SubQuestion No : 22

Q.22 Select the most appropriate option to fill in blank number 2.

- Ans
- 1. rest
 - 2. hanged
 - 3. poised
 - 4. hang

Question Type : **MCQ**
Question ID : **264330134755**
Option 1 ID : **264330527967**
Option 2 ID : **264330527969**
Option 3 ID : **264330527970**
Option 4 ID : **264330527968**
Status : **Answered**
Chosen Option : **4**

Comprehension:

In the following passage some of the words have been deleted. Read the passage carefully and select the correct answer for the given blank out of the four alternatives.

In a gallery at the Metropolitan Museum of Art (1) _____ New York, paintings of a father and daughter (2) _____ face to face. Larger than life, the monumental portraits (3) _____ competing conceptions of royal power. The father, Henry VIII, (4) _____ directly at the viewer, conveying aggression through his wide stance, bulging leg muscles and (5) _____ padded clothing.

SubQuestion No : 23

Q.23 Select the most appropriate option to fill in blank number 3.

- Ans
- 1. believe
 - 2. present
 - 3. settle
 - 4. sell

Question Type : **MCQ**
Question ID : **264330134756**
Option 1 ID : **264330527974**
Option 2 ID : **264330527973**
Option 3 ID : **264330527971**
Option 4 ID : **264330527972**
Status : **Answered**
Chosen Option : **2**

Comprehension:

In the following passage some of the words have been deleted. Read the passage carefully and select the correct answer for the given blank out of the four alternatives.

In a gallery at the Metropolitan Museum of Art (1) _____ New York, paintings of a father and daughter (2) _____ face to face. Larger than life, the monumental portraits (3) _____ competing conceptions of royal power. The father, Henry VIII, (4) _____ directly at the viewer, conveying aggression through his wide stance, bulging leg muscles and (5) _____ padded clothing.

SubQuestion No : 24

Q.24 Select the most appropriate option to fill in blank number 4.

- Ans**
- 1. looks
 - 2. shocks
 - 3. hooks
 - 4. books

Question Type : **MCQ**
Question ID : **264330134757**
Option 1 ID : **264330527977**
Option 2 ID : **264330527975**
Option 3 ID : **264330527978**
Option 4 ID : **264330527976**
Status : **Answered**
Chosen Option : **1**

Comprehension:

In the following passage some of the words have been deleted. Read the passage carefully and select the correct answer for the given blank out of the four alternatives.

In a gallery at the Metropolitan Museum of Art (1) _____ New York, paintings of a father and daughter (2) _____ face to face. Larger than life, the monumental portraits (3) _____ competing conceptions of royal power. The father, Henry VIII, (4) _____ directly at the viewer, conveying aggression through his wide stance, bulging leg muscles and (5) _____ padded clothing.

SubQuestion No : 25

Q.25 Select the most appropriate option to fill in blank number 5.

- Ans**
- 1. excessively
 - 2. totally
 - 3. commonly
 - 4. acutely

Question Type : **MCQ**
Question ID : **264330134758**
Option 1 ID : **264330527982**
Option 2 ID : **264330527979**
Option 3 ID : **264330527980**
Option 4 ID : **264330527981**
Status : **Answered**
Chosen Option : **2**

Join Qmaths on Social Media:



Telegram Channel

<https://t.me/qmaths>



Facebook Page

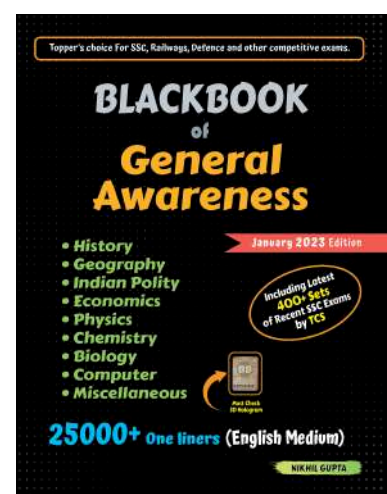

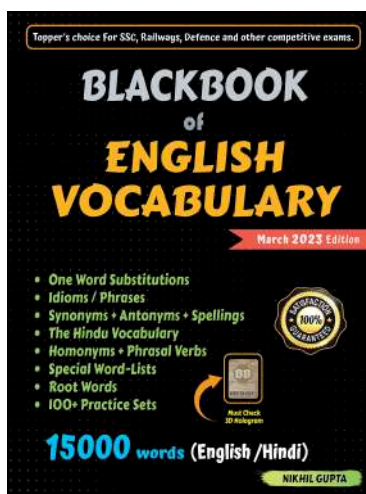
www.fb.com/Qmathsofficial/



YouTube Channel

www.youtube.com/QMaths_in/

Get the latest BlackBooks to Boost your Exam Preparation



Multi Tasking Non Technical Staff and Havaladar CBIC and CBN Examination 2022

Roll Number	KD Job Updates
Candidate Name	KD Job Updates
Venue Name	iON Digital Zone iDZ 2 Patliputra
Exam Date	15/05/2023
Exam Time	3:30 PM - 5:00 PM
Subject	MTS Non Tech Havaladar CBIC and CBN Examination 2022

Section : Numerical and Mathematical Ability

Q.1 $\frac{126}{39} \times \left(\frac{78}{14} \div \frac{13}{91} \right) - \frac{45}{9}$ का मान क्या है?

- Ans
- 1. 141
 - 2. 123
 - 3. 143
 - 4. 121

Question Type : MCQ

Question ID : 264330139092

Option 1 ID : 264330544977

Option 2 ID : 264330544976

Option 3 ID : 264330544978

Option 4 ID : 264330544975

Status : Answered

Chosen Option : 4

Q.2 A अकेले एक घर को 35 दिनों में पेंट कर सकता है और B अकेले इसे 70 दिनों में कर सकता है। C के साथ, उन्होंने यह कार्य केवल 10 दिनों में कर दिया। C अकेले इस कार्य को कितने दिनों में कर सकता है?

- Ans
- 1. 40 दिन
 - 2. 70/3 दिन
 - 3. 70/4 दिन
 - 4. 20 दिन

Question Type : MCQ

Question ID : 264330138384

Option 1 ID : 264330542146

Option 2 ID : 264330542143

Option 3 ID : 264330542145

Option 4 ID : 264330542144

Status : Answered

Chosen Option : 3

Q.3 A मार्च में अन्य प्रत्येक महीनों की तुलना में दोगुना कमाता है। मार्च में उसकी आय और वार्षिक आय का अनुपात कितना है?

- Ans
- 1. 2 : 7
 - 2. 3 : 8
 - 3. 4 : 9
 - 4. 2 : 13

Question Type : MCQ

Question ID : 264330135074

Option 1 ID : 264330529232

Option 2 ID : 264330529233

Option 3 ID : 264330529234

Option 4 ID : 264330529231

Status : Answered

Chosen Option : 4

Q.4 दो नाव एक नदी में धारा के अनुकूल 35 km/hr और 25 km/hr की चाल से चलती हैं। धारा की चाल 4 km/hr है। प्रारंभ में दोनों नावों के बीच की दूरी 60 km है। यदि दोनों नाव धारा के अनुकूल गति कर रही हैं, तो वे एक-दूसरे से कितने समय में मिलेंगी?

- Ans
- 1. 8 घंटे
 - 2. 13 घंटे
 - 3. 10 घंटे
 - 4. 6 घंटे

Question Type : MCQ

Question ID : 264330135078

Option 1 ID : 264330529249

Option 2 ID : 264330529250

Option 3 ID : 264330529247

Option 4 ID : 264330529248

Status : Answered

Chosen Option : 4

Q.5 4 क्रमागत संख्याओं का औसत 35.5 है। इन संख्याओं में से सबसे बड़ी संख्या ज्ञात कीजिए।

- Ans
- 1. 37
 - 2. 36
 - 3. 39
 - 4. 40

Question Type : MCQ

Question ID : 264330135067

Option 1 ID : 264330529203

Option 2 ID : 264330529205

Option 3 ID : 264330529204

Option 4 ID : 264330529206

Status : Answered

Chosen Option : 1

Q.6 यदि किसी वस्तु का क्रय मूल्य उसके विक्रय मूल्य का 80 प्रतिशत है, तो लाभ प्रतिशत क्या है?

- Ans
- 1. 50 प्रतिशत
 - 2. 33.33 प्रतिशत
 - 3. 25 प्रतिशत
 - 4. 30 प्रतिशत

Question Type : MCQ

Question ID : 264330137328

Option 1 ID : 264330537940

Option 2 ID : 264330537939

Option 3 ID : 264330537942

Option 4 ID : 264330537941

Status : Answered

Chosen Option : 3

Q.7 25 कर्मचारी कार्य को 20 दिनों में पूरा कर सकते हैं। 10 कर्मचारियों को कितने दिनों के बाद कार्य छोड़ देना चाहिए ताकि कार्य 30 दिनों में समाप्त हो?

- Ans
- 1. 3 दिन
 - 2. 5 दिन
 - 3. 6 दिन
 - 4. 7 दिन

Question Type : MCQ

Question ID : 264330135079

Option 1 ID : 264330529251

Option 2 ID : 264330529254

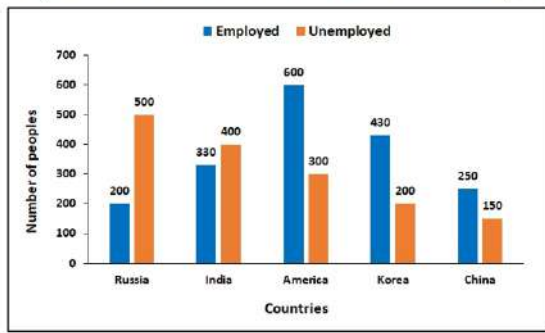
Option 3 ID : 264330529252

Option 4 ID : 264330529253

Status : Answered

Chosen Option : 2

Q.8 निम्न दंड आलेख में 5 अलग-अलग देशों में रोजगार प्राप्त (employed) और बेरोजगार (unemployed) व्यक्तियों की संख्या को दर्शाया गया है। भारत में बेरोजगार व्यक्तियों और रूस में रोजगार प्राप्त व्यक्तियों का अनुपात ज्ञात कीजिए।



Number of People - व्यक्तियों की संख्या, Countries - देश, employed - रोजगार प्राप्त, unemployed - बेरोजगार

Russia - रूस, India - भारत, America - अमेरिका, Korea - कोरिया, China - चीन

- Ans
- 1. 3 : 4
 - 2. 2 : 3
 - 3. 2 : 1
 - 4. 1 : 4

Question Type : MCQ

Question ID : 264330135082

Option 1 ID : 264330529265

Option 2 ID : 264330529264

Option 3 ID : 264330529263

Option 4 ID : 264330529266

Status : Answered

Chosen Option : 3

Q.9 एक रेलगाड़ी 360 km/h की एकसमान चाल से गति कर रही है। 18 मिनट में वह कितनी दूरी तय करेगी?

- Ans
- 1. 108 km
 - 2. 180 km
 - 3. 160 km
 - 4. 200 km

Question Type : MCQ

Question ID : 264330135075

Option 1 ID : 264330529238

Option 2 ID : 264330529236

Option 3 ID : 264330529235

Option 4 ID : 264330529237

Status : Answered

Chosen Option : 1

Q.10 चक्रवृद्धि ब्याज (वार्षिक रूप से संयोजित) पर 16 प्रतिशत की वार्षिक दर से एक वर्ष के लिए एक राशि ऋण पर दी गई थी। यदि चक्रवृद्धि अर्धवार्षिक रूप से की जाती, तो ब्याज में Rs. 64 की वृद्धि होती। ऋण पर दी गई राशि कितनी थी?

- Ans
- 1. Rs. 10000
 - 2. Rs. 6000
 - 3. Rs. 20000
 - 4. Rs. 14000

Question Type : MCQ
Question ID : 264330137614
Option 1 ID : 264330539065
Option 2 ID : 264330539064
Option 3 ID : 264330539063
Option 4 ID : 264330539066
Status : Answered
Chosen Option : 1

Q.11 Successive discounts of 15% and 30% are equivalent to how much percent of a single discount?

- Ans
- 1. 20.5%
 - 2. 33.33%
 - 3. 52.8%
 - 4. 40.5%

Question Type : MCQ
Question ID : 264330135073
Option 1 ID : 264330529227
Option 2 ID : 264330529229
Option 3 ID : 264330529228
Option 4 ID : 264330529230
Status : Answered
Chosen Option : 4

Q.12 $\frac{1}{8} \times \left[\frac{1}{5} \text{ of } \frac{11}{2} \div \left\{ \left(\frac{15}{3} - \frac{18}{6} \right) \right\} \right]$ का मान है:

- Ans
- 1. $\frac{11}{20}$
 - 2. $\frac{11}{8}$
 - 3. $\frac{11}{160}$
 - 4. $\frac{8}{11}$

Question Type : MCQ
Question ID : 264330134082
Option 1 ID : 264330525351
Option 2 ID : 264330525353
Option 3 ID : 264330525354
Option 4 ID : 264330525352
Status : Answered
Chosen Option : 3

Q.13 यदि एक ठोस बेलन का वक्र पृष्ठीय क्षेत्रफल इसके कुल पृष्ठीय क्षेत्रफल का $\frac{2}{5}$ भाग है, तो इसके व्यास और इसकी ऊँचाई का अनुपात कितना है?

- Ans
- 1. 2:3
 - 2. 1:2
 - 3. 3:1
 - 4. 2:5

Question Type : MCQ

Question ID : 264330138389

Option 1 ID : 264330542165

Option 2 ID : 264330542166

Option 3 ID : 264330542163

Option 4 ID : 264330542164

Status : Answered

Chosen Option : 3

Q.14 यदि किसी वृत्त की परिधि 13.2 cm है, तो उसकी त्रिज्या कितनी है?

- Ans
- 1. 21 cm
 - 2. 6 cm
 - 3. 1.7 cm
 - 4. 2.1 cm

Question Type : MCQ

Question ID : 264330135083

Option 1 ID : 264330529269

Option 2 ID : 264330529267

Option 3 ID : 264330529268

Option 4 ID : 264330529270

Status : Answered

Chosen Option : 4

Q.15 निम्न तालिका में 4 अलग-अलग स्कूलों से अलग-अलग खेल खेलने वाले छात्रों की संख्या को दर्शाया गया है। स्कूल A और C में मिलाकर बास्केटबॉल खेलने वाले कुल छात्रों और स्कूल B और D में मिलाकर फुटबॉल खेलने वाले कुल छात्रों का अनुपात कितना है?

Schools	Games				
	Basketball	Football	Tennis	Cricket	Hockey
A	125	75	28	100	22
B	90	50	12	50	13
C	145	80	45	70	40
D	100	40	20	45	55

Schools- स्कूल, Games- खेल, Basketball- बास्केटबॉल, Football- फुटबॉल, Tennis- टेनिस, Cricket- क्रिकेट

- Ans
- 1. 3:1
 - 2. 2:3
 - 3. 2:5
 - 4. 4:5

Question Type : MCQ

Question ID : 264330134096

Option 1 ID : 264330525409

Option 2 ID : 264330525410

Option 3 ID : 264330525407

Option 4 ID : 264330525408

Status : Answered

Chosen Option : 1

Q.16 $12 \div (1/2) + \{(35 \div 7) \text{ of } 40\} + 20 - 15 \text{ of } 10$ का मान है:

- Ans
- 1. 99
 - 2. 88
 - 3. 94
 - 4. 80

Question Type : MCQ
Question ID : 264330135064
Option 1 ID : 264330529191
Option 2 ID : 264330529193
Option 3 ID : 264330529192
Option 4 ID : 264330529194
Status : Answered
Chosen Option : 3

Q.17 एक मैच में 7 खिलाड़ियों द्वारा बनाए गए रनों का औसत 63 है। यदि 6 खिलाड़ियों द्वारा बनाए गए रन 130, 42, 24, 53, 45 और 54 हैं, तो सातवें खिलाड़ी ने कितने रन बनाए?

- Ans
- 1. 93
 - 2. 90
 - 3. 87
 - 4. 85

Question Type : MCQ
Question ID : 264330137157
Option 1 ID : 264330537274
Option 2 ID : 264330537272
Option 3 ID : 264330537273
Option 4 ID : 264330537271
Status : Answered
Chosen Option : 1

Q.18 साधारण ब्याज पर Rs. 600 की राशि 4 वर्ष में Rs. 840 हो जाती है। साधारण ब्याज की समान दर पर Rs. 1500 की राशि कितने वर्षों में Rs. 2100 हो जाएगी?

- Ans
- 1. 4 वर्ष
 - 2. 3 वर्ष
 - 3. 5 वर्ष
 - 4. 2 वर्ष

Question Type : MCQ
Question ID : 264330137634
Option 1 ID : 264330539146
Option 2 ID : 264330539144
Option 3 ID : 264330539145
Option 4 ID : 264330539143
Status : Answered
Chosen Option : 1

Q.19 एक विक्रेता ने Rs. 6400 में एक वॉशिंग मशीन खरीदी। इसके अंकित मूल्य पर 20% का बढ़ा देने के पश्चात भी उसे 30% का लाभ होता है। वॉशिंग मशीन का अंकित मूल्य ज्ञात कीजिए।

- Ans
- 1. Rs. 11,000
 - 2. Rs. 12,000
 - 3. Rs. 10,400
 - 4. Rs. 13,000

Question Type : MCQ
Question ID : 264330135072
Option 1 ID : 264330529223
Option 2 ID : 264330529224
Option 3 ID : 264330529225
Option 4 ID : 264330529226
Status : Answered
Chosen Option : 3

Q.20 2100 के $(\frac{2}{7})$ भाग के 40 प्रतिशत के 25 प्रतिशत का मान क्या है?

- Ans
- 1. 60
 - 2. 40
 - 3. 50
 - 4. 45

Question Type : MCQ
Question ID : 264330137629
Option 1 ID : 264330539126
Option 2 ID : 264330539124
Option 3 ID : 264330539125
Option 4 ID : 264330539123
Status : Answered
Chosen Option : 1

Section : Reasoning Ability and Problem Solving

Q.1 उस विकल्प को चुनिए जो तीसरे शब्द से ठीक उसी प्रकार संबंधित है जिस प्रकार दूसरा शब्द पहले शब्द से संबंधित है।
खंडन करना : स्वीकृति देना :: प्रशंसा करना : ?

- Ans
- 1. गुणगान करना
 - 2. गर्व करना
 - 3. आलोचना करना
 - 4. सराहना करना

Question Type : MCQ
Question ID : 264330134957
Option 1 ID : 264330528764
Option 2 ID : 264330528766
Option 3 ID : 264330528765
Option 4 ID : 264330528763
Status : Answered
Chosen Option : 3

Q.2 पाँच लड़कियाँ अर्थात् B, H, O, M और S एक परिधि में केंद्र की ओर मुख करके बैठी हैं। S, O के ठीक बाईं ओर, और B के ठीक दाईं ओर बैठी है। M, S के बाएँ से दूसरे स्थान पर बैठी है। H के ठीक दाईं ओर कौन बैठा है?

- Ans
- 1. S
 - 2. O
 - 3. B
 - 4. M

Question Type : MCQ

Question ID : 264330134962

Option 1 ID : 264330528786

Option 2 ID : 264330528785

Option 3 ID : 264330528784

Option 4 ID : 264330528783

Status : Answered

Chosen Option : 4

Q.3 सात छात्र H, I, J, K, L, M और N, सभी ने अलग-अलग अंक प्राप्त किए हैं। H ने केवल N से अधिक अंक प्राप्त किए। तीन छात्रों के अंक J और I के अंकों के बीच थे। I ने सर्वाधिक अंक प्राप्त नहीं किए हैं। कितने छात्रों ने J से कम अंक प्राप्त किए?

- Ans
- 1. 4
 - 2. 5
 - 3. 6
 - 4. 3

Question Type : MCQ

Question ID : 264330134964

Option 1 ID : 264330528791

Option 2 ID : 264330528792

Option 3 ID : 264330528793

Option 4 ID : 264330528794

Status : Answered

Chosen Option : 3

Q.4 दी गई दो संख्याओं को आपस में बदलने पर क्रमशः समीकरण (I) और (II) का मान क्या होगा?

8 और 4

I. $8 - 4 \times 6 \div 3 + 7$

II. $8 \times 3 - 6 \div 2 + 4$

- Ans
- 1. 20 और 18
 - 2. -5 और 20
 - 3. -5 और 17
 - 4. -4 और 18

Question Type : MCQ

Question ID : 264330137533

Option 1 ID : 264330538739

Option 2 ID : 264330538742

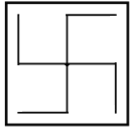
Option 3 ID : 264330538741

Option 4 ID : 264330538740

Status : Answered

Chosen Option : 4

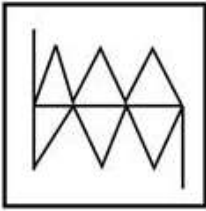
Q.5 उस विकल्प आकृति को चुनिए जिसमें दी गई आकृति (X) उसके भाग के रूप में निहित है (घूर्णन की अनुमति नहीं है)।



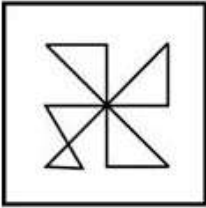
(X)

Ans

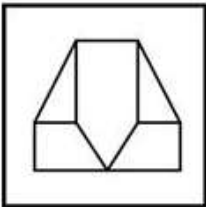
✗ 1.



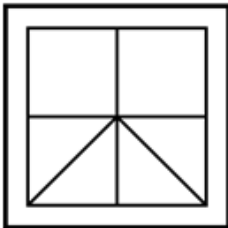
✗ 2.



✗ 3.



✓ 4.



Question Type : **MCQ**

Question ID : **264330133713**

Option 1 ID : **264330523878**

Option 2 ID : **264330523877**

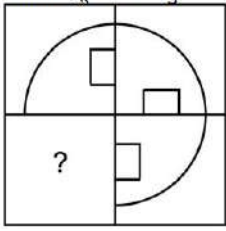
Option 3 ID : **264330523876**

Option 4 ID : **264330523875**

Status : **Answered**

Chosen Option : **4**

Q.6 उस विकल्प आकृति को चुनिए जो पैटर्न को पूरा करने के लिए नीचे दी गई आकृति में प्रश्न चिन्ह (?) के स्थान पर आएगी। (घूर्णन की अनुमति नहीं है)



Ans

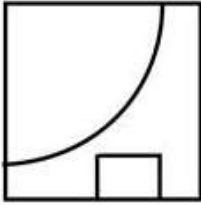
✗ 1.



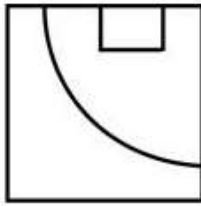
✗ 2.



✗ 3.



✓ 4.



Question Type : **MCQ**

Question ID : **264330134975**

Option 1 ID : **264330528838**

Option 2 ID : **264330528835**

Option 3 ID : **264330528837**

Option 4 ID : **264330528836**

Status : **Answered**

Chosen Option : **4**

Q.7 उस विकल्प को चुनिए जो तीसरी संख्या से ठीक उसी तरह संबंधित है जिस तरह दूसरी संख्या पहली संख्या से संबंधित है।

483 : 331 :: 715 : ?

- Ans
- 1. 356
 - 2. 653
 - 3. 563
 - 4. 570

Question Type : MCQ

Question ID : 264330137552

Option 1 ID : 264330538816

Option 2 ID : 264330538815

Option 3 ID : 264330538818

Option 4 ID : 264330538817

Status : Answered

Chosen Option : 3

Q.8 दी गई श्रृंखला में निम्नलिखित में से कौन-सी संख्या प्रश्न चिन्ह(?) के स्थान पर आएगी?

47, 49, 53, 55, 59, 61, 65, ?

- Ans
- 1. 76
 - 2. 67
 - 3. 69
 - 4. 56

Question Type : MCQ

Question ID : 264330134968

Option 1 ID : 264330528809

Option 2 ID : 264330528808

Option 3 ID : 264330528807

Option 4 ID : 264330528810

Status : Answered

Chosen Option : 2

Q.9 दी गई श्रृंखला में निम्नलिखित में से कौन-सी संख्या प्रश्न चिन्ह (?) के स्थान पर आएगी?

81, 243, 40.5, 121.5, 20.25, 60.75, ?

- Ans
- 1. 10.120
 - 2. 10.215
 - 3. 10.125
 - 4. 10.115

Question Type : MCQ

Question ID : 264330137550

Option 1 ID : 264330538809

Option 2 ID : 264330538807

Option 3 ID : 264330538810

Option 4 ID : 264330538808

Status : Answered

Chosen Option : 3

Q.10 एक निश्चित कूट भाषा में, 'FULLY' को 'PPYJ' लिखा जाता है। उस कूट भाषा में 'GIVEN' को कैसे लिखा जाएगा?

- Ans 1. RIZMK
 2. RIYMK
 3. RIZML
 4. RIZOK

Question Type : MCQ

Question ID : 264330138462

Option 1 ID : 264330542458

Option 2 ID : 264330542455

Option 3 ID : 264330542456

Option 4 ID : 264330542457

Status : Answered

Chosen Option : 1

Q.11 दिए गए पैटर्न का ध्यानपूर्वक अध्ययन कीजिए और उस संख्या को चुनिए जो इस पैटर्न में प्रश्न चिन्ह (?) के स्थान पर आ सकती है।

पहली पंक्ति- 8, 96, 104

दूसरी पंक्ति- 11, 132, 143

तीसरी पंक्ति- 7, 84, ?

- Ans 1. 92
 2. 88
 3. 91
 4. 95

Question Type : MCQ

Question ID : 264330134970

Option 1 ID : 264330528816

Option 2 ID : 264330528817

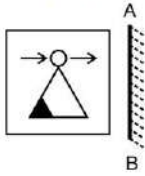
Option 3 ID : 264330528815

Option 4 ID : 264330528818

Status : Answered

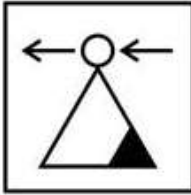
Chosen Option : 3

Q.12 दी गई आकृति के उस सही दर्पण प्रतिबिंब को चुनिए, जो नीचे दर्शाए गए अनुसार दर्पण को AB पर रखने पर बनेगा।



Ans

✓ 1.



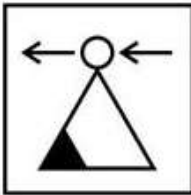
✗ 2.



✗ 3.



✗ 4.



Question Type : MCQ

Question ID : 264330133714

Option 1 ID : 264330523881

Option 2 ID : 264330523882

Option 3 ID : 264330523879

Option 4 ID : 264330523880

Status : Answered

Chosen Option : 1

Q.13 उस विकल्प को चुनिए जो तीसरे अक्षर समूह से ठीक उसी प्रकार संबंधित है जिस प्रकार दूसरी संख्या पहले अक्षर समूह से संबंधित है।

CL : 36 :: FP : ?

Ans

✗ 1. 88

✓ 2. 96

✗ 3. 49

✗ 4. 92

Question Type : MCQ

Question ID : 264330134956

Option 1 ID : 264330528760

Option 2 ID : 264330528762

Option 3 ID : 264330528759

Option 4 ID : 264330528761

Status : Answered

Chosen Option : 2

Q.14 छः भाई K, L, M, N, O और S एक कतार में उत्तर की ओर मुख करके खड़े हैं। K, N के ठीक पीछे खड़ा है। O, M और S के ठीक बीच में खड़ा है। केवल तीन भाई L के पीछे खड़े हैं। K के ठीक पीछे कौन खड़ा है?

- Ans
- 1. N
 - 2. S
 - 3. L
 - 4. M

Question Type : MCQ

Question ID : 264330134963

Option 1 ID : 264330528788

Option 2 ID : 264330528790

Option 3 ID : 264330528787

Option 4 ID : 264330528789

Status : Answered

Chosen Option : 3

Q.15 तीन कथन दिए गए हैं और दो निष्कर्ष I और II दिए गए हैं। कथनों को सत्य मानते हुए, चाहे वे सामान्यतः ज्ञात तथ्यों से अलग प्रतीत होते हों, निश्चय कीजिए कि कौन-सा निष्कर्ष तार्किक रूप से कथनों के अनुसार है।

कथन:

कुछ शब्द, छोटे हैं।

कुछ छोटे, लंबे हैं।

सभी लंबे, पेड़ हैं।

निष्कर्ष:

I. कुछ पेड़, छोटे हैं।

II. कुछ पेड़, शब्द हैं।

- Ans
- 1. दोनों निष्कर्ष I और II कथनों के अनुसार हैं।
 - 2. केवल निष्कर्ष II कथनों के अनुसार है।
 - 3. केवल निष्कर्ष I कथनों के अनुसार है।
 - 4. न तो निष्कर्ष I और न ही II कथनों के अनुसार है।

Question Type : MCQ

Question ID : 264330134966

Option 1 ID : 264330528801

Option 2 ID : 264330528800

Option 3 ID : 264330528799

Option 4 ID : 264330528802

Status : Answered

Chosen Option : 3

Q.16 एक निश्चित कूट भाषा में, 'JUMP' को 'ITLO' लिखा जाता है और 'GIRL' को 'FHQK' लिखा जाता है। उस कूट भाषा में 'LOVE' को कैसे लिखा जाएगा?

- Ans
- ✓ 1. KNUD
 - ✗ 2. KPUD
 - ✗ 3. KNWD
 - ✗ 4. KNWF

Question Type : MCQ
Question ID : 264330133490
Option 1 ID : 264330522992
Option 2 ID : 264330522991
Option 3 ID : 264330522993
Option 4 ID : 264330522994
Status : Answered
Chosen Option : 2

Q.17 एक निश्चित कूट भाषा में, 'ABOVE' को 'DERYH' लिखा जाता है। उस कूट भाषा में 'BELOW' को कैसे लिखा जाएगा?

- Ans
- ✗ 1. FHOSY
 - ✗ 2. EHPRY
 - ✓ 3. EHORZ
 - ✗ 4. EHORY

Question Type : MCQ
Question ID : 264330138502
Option 1 ID : 264330542616
Option 2 ID : 264330542615
Option 3 ID : 264330542618
Option 4 ID : 264330542617
Status : Answered
Chosen Option : 3

Q.18 दी गई श्रृंखला में निम्नलिखित में से कौन-सा अक्षर समूह प्रश्न चिन्ह (?) के स्थान पर आएगा?
CAM, DYL, EWK, FUJ, GSI, HQH, ?

- Ans
- ✓ 1. IOG
 - ✗ 2. IOF
 - ✗ 3. FOG
 - ✗ 4. IJG

Question Type : MCQ
Question ID : 264330134954
Option 1 ID : 264330528754
Option 2 ID : 264330528751
Option 3 ID : 264330528752
Option 4 ID : 264330528753
Status : Answered
Chosen Option : 1

Q.19 दिए गए समीकरण को सही करने के लिए किन दो संख्याओं को आपस में बदला जाना चाहिए?

$$12 \times 4 - 8 + 9 \div 3 = 32$$

- Ans
- 1. 32 और 12
 - 2. 12 और 3
 - 3. 12 और 9
 - 4. 4 और 9

Question Type : MCQ

Question ID : 264330134971

Option 1 ID : 264330528819

Option 2 ID : 264330528822

Option 3 ID : 264330528821

Option 4 ID : 264330528820

Status : Answered

Chosen Option : 3

Q.20 दो कथन दिए गए हैं और दो निष्कर्ष I और II दिए गए हैं। कथनों को सत्य मानते हुए, चाहे वे सामान्यतः ज्ञात तथ्यों से अलग प्रतीत होते हों, निम्नलिखित कौन-सा निष्कर्ष तार्किक रूप से कथनों के अनुसार है।

कथन:

कुछ घोड़े, ट्रक नहीं हैं।

सभी घोड़े, सफेद हैं।

निष्कर्ष:

I. कुछ सफेद, ट्रक हैं।

II. कुछ घोड़ों का ट्रक होना एक संभावना है।

- Ans
- 1. न तो निष्कर्ष I और न ही II कथनों के अनुसार है।
 - 2. दोनों निष्कर्ष I और II कथनों के अनुसार हैं।
 - 3. केवल निष्कर्ष I कथनों के अनुसार है।
 - 4. केवल निष्कर्ष II कथनों के अनुसार है।

Question Type : MCQ

Question ID : 264330134965

Option 1 ID : 264330528798

Option 2 ID : 264330528797

Option 3 ID : 264330528795

Option 4 ID : 264330528796

Status : Answered

Chosen Option : 4

Section : General Awareness

Q.1 गौतम बुद्ध को _____ में एक पीपल के वृक्ष के नीचे ज्ञान प्राप्ति हुई।

- Ans
- 1. वाराणसी
 - 2. बोधगया
 - 3. पाटलिपुत्र
 - 4. उज्जैन

Question Type : MCQ
Question ID : 264330134640
Option 1 ID : 264330527518
Option 2 ID : 264330527515
Option 3 ID : 264330527516
Option 4 ID : 264330527517
Status : Answered
Chosen Option : 2

Q.2 वह कौन-सी पहली प्राचीन भारतीय सभ्यता थी जिसमें व्यवस्थित नगर नियोजन और भूमिगत जल निकास प्रणाली थी?

- Ans
- 1. पूर्वकालीन न्युबियन सभ्यता (Early Nubian civilization)
 - 2. सिंधु घाटी सभ्यता (Indus valley civilization)
 - 3. उत्तरकालीन वैदिक सभ्यता (Later Vedic civilization)
 - 4. ईजियन सभ्यता (Aegean civilization)

Question Type : MCQ
Question ID : 264330137690
Option 1 ID : 264330539368
Option 2 ID : 264330539367
Option 3 ID : 264330539369
Option 4 ID : 264330539370
Status : Answered
Chosen Option : 2

Q.3 प्रधानमंत्री कौशल विकास योजना (PMKVY) किस वर्ष शुरू की गई थी?

- Ans
- 1. 2016
 - 2. 2014
 - 3. 2017
 - 4. 2015

Question Type : MCQ
Question ID : 264330134639
Option 1 ID : 264330527513
Option 2 ID : 264330527511
Option 3 ID : 264330527514
Option 4 ID : 264330527512
Status : Answered
Chosen Option : 1

Q.4 भारतीय दंड संहिता की धारा 377 क्या परिभाषित करती है?

- Ans
- 1. सरोगेसी
 - 2. महिलाओं का मंदिर में प्रवेश
 - 3. अप्राकृतिक अपराधों को गैरकानूनी घोषित करना
 - 4. तीन तलाक

Question Type : MCQ
Question ID : 264330137687
Option 1 ID : 264330539356
Option 2 ID : 264330539357
Option 3 ID : 264330539355
Option 4 ID : 264330539358
Status : Answered
Chosen Option : 4

Q.5 छऊ नृत्य युद्ध परंपराओं, मंदिर अनुष्ठानों आदि का मिश्रण है। यह भारत के किस क्षेत्र में किया जाता है?

- Ans
- 1. दक्षिणी
 - 2. उत्तरी
 - 3. पूर्वी
 - 4. पश्चिमी

Question Type : MCQ
Question ID : 264330134619
Option 1 ID : 264330527432
Option 2 ID : 264330527433
Option 3 ID : 264330527434
Option 4 ID : 264330527431
Status : Answered
Chosen Option : 3

Q.6 छत्रपति शिवाजी महाराज टर्मिनस को पहले _____ के नाम से जाना जाता था।

- Ans
- 1. एलिजाबेथ टर्मिनस स्टेशन
 - 2. जेम्स टर्मिनस स्टेशन
 - 3. जॉर्ज टर्मिनस स्टेशन
 - 4. विक्टोरिया टर्मिनस स्टेशन

Question Type : MCQ
Question ID : 264330134621
Option 1 ID : 264330527441
Option 2 ID : 264330527439
Option 3 ID : 264330527442
Option 4 ID : 264330527440
Status : Answered
Chosen Option : 4

Q.7 निम्नलिखित में से कौन-सा तत्व हैलोजन (Halogens) समूह के अंतर्गत नहीं आता?

- Ans
- 1. ब्रोमीन
 - 2. ऐस्टैटीन
 - 3. हीलियम
 - 4. क्लोरीन

Question Type : MCQ
Question ID : 264330137716
Option 1 ID : 264330539472
Option 2 ID : 264330539474
Option 3 ID : 264330539473
Option 4 ID : 264330539471
Status : Answered
Chosen Option : 3

Q.8 प्रसिद्ध नेलापट्टु (Nelapattu) पक्षी अभयारण्य निम्नलिखित में से किस राज्य में स्थित है?

- Ans
- 1. आंध्रप्रदेश
 - 2. मध्यप्रदेश
 - 3. तमिलनाडु
 - 4. कर्नाटक

Question Type : MCQ
Question ID : 264330137718
Option 1 ID : 264330539481
Option 2 ID : 264330539482
Option 3 ID : 264330539480
Option 4 ID : 264330539479
Status : Answered
Chosen Option : 1

Q.9 कारक अदायगी के समस्त मूल्यों को मापने वाली सकल घरेलू उत्पाद (GDP) की मूल्यांकन पद्धति को _____ कहा जाता है।

- Ans
- 1. उत्पाद विधि
 - 2. व्यय विधि
 - 3. आय विधि
 - 4. मूल्य वर्धित विधि

Question Type : MCQ
Question ID : 264330134629
Option 1 ID : 264330527471
Option 2 ID : 264330527472
Option 3 ID : 264330527473
Option 4 ID : 264330527474
Status : Answered
Chosen Option : 4

Q.10 निम्नलिखित में से किस शख्सियत का संबंध अलीगढ़ आंदोलन से है?

- Ans
- ✓ 1. सैयद अहमद खान
 - ✗ 2. मुहम्मद अली जिन्ना
 - ✗ 3. सैयद अमीर अली
 - ✗ 4. अबुल कलाम आज़ाद

Question Type : MCQ
Question ID : 264330134072
Option 1 ID : 264330525314
Option 2 ID : 264330525313
Option 3 ID : 264330525312
Option 4 ID : 264330525311
Status : Answered
Chosen Option : 1

Q.11 बजट 2022 में की गई घोषणा के मुताबिक, बाल स्वास्थ्य में सुधार के लिए _____ आंगनवाड़ियों को बेहतर बनाया जाएगा।

- Ans
- ✗ 1. 4 लाख
 - ✓ 2. 2 लाख
 - ✗ 3. 1 लाख
 - ✗ 4. 3 लाख

Question Type : MCQ
Question ID : 264330138245
Option 1 ID : 264330541590
Option 2 ID : 264330541588
Option 3 ID : 264330541587
Option 4 ID : 264330541589
Status : Answered
Chosen Option : 2

Q.12 "वाइड एंगल (Wide Angle)" निम्नलिखित में से किस खिलाड़ी की आत्मकथा है?

- Ans
- ✗ 1. इमरान खान
 - ✗ 2. वसीम अकरम
 - ✗ 3. युवराज सिंह
 - ✓ 4. अनिल कुंबले

Question Type : MCQ
Question ID : 264330138238
Option 1 ID : 264330541561
Option 2 ID : 264330541562
Option 3 ID : 264330541560
Option 4 ID : 264330541559
Status : Answered
Chosen Option : 2

Q.13 2011 की भारतीय जनगणना को भारत की आजादी के बाद _____ जनगणना अभियान कहा जा सकता है।

- Ans
- ✓ 1. सातवाँ
 - ✗ 2. नौवाँ
 - ✗ 3. दसवाँ
 - ✗ 4. ग्यारहवाँ

Question Type : MCQ
Question ID : 264330137905
Option 1 ID : 264330540230
Option 2 ID : 264330540228
Option 3 ID : 264330540229
Option 4 ID : 264330540227
Status : Answered
Chosen Option : 1

Q.14 _____ सबसे गहरा भूपरिवेष्ठित (landlocked) और पूरी तरह से संरक्षित बंदरगाह है।

- Ans
- ✓ 1. विशाखापत्तनम
 - ✗ 2. कांडला
 - ✗ 3. पाराद्वीप
 - ✗ 4. मुंबई

Question Type : MCQ
Question ID : 264330138230
Option 1 ID : 264330541527
Option 2 ID : 264330541528
Option 3 ID : 264330541530
Option 4 ID : 264330541529
Status : Answered
Chosen Option : 1

Q.15 शोबना नारायण एक प्रसिद्ध _____ नृत्यांगना हैं।

- Ans
- ✓ 1. कथक
 - ✗ 2. कुचिपुड़ी
 - ✗ 3. ओडिसी
 - ✗ 4. मणिपुरी

Question Type : MCQ
Question ID : 264330138240
Option 1 ID : 264330541570
Option 2 ID : 264330541568
Option 3 ID : 264330541567
Option 4 ID : 264330541569
Status : Answered
Chosen Option : 2

Q.16 दिल्ली में हुए 1929 के असेंबली बम कांड के मुख्य आरोपी कौन थे?

- Ans
- 1. राम प्रसाद और अशफाकउल्ला
 - 2. भगत सिंह और बटुकेश्वर दत्त
 - 3. उधम सिंह और मंगल पांडे
 - 4. सूर्य सेन और राम प्रसाद

Question Type : MCQ

Question ID : 264330137701

Option 1 ID : 264330539414

Option 2 ID : 264330539413

Option 3 ID : 264330539412

Option 4 ID : 264330539411

Status : Answered

Chosen Option : 2

Q.17 1 मार्च 2023 तक, निम्नलिखित में से कौन-सा देश आसियान (ASEAN) का हिस्सा नहीं है ?

- Ans
- 1. थाईलैंड
 - 2. इंडोनेशिया
 - 3. श्रीलंका
 - 4. मलेशिया

Question Type : MCQ

Question ID : 264330133943

Option 1 ID : 264330524795

Option 2 ID : 264330524798

Option 3 ID : 264330524796

Option 4 ID : 264330524797

Status : Answered

Chosen Option : 3

Q.18 महानदी का उद्गम _____ की उच्चभूमि से होता है।

- Ans
- 1. बिहार
 - 2. छत्तीसगढ़
 - 3. आंध्रप्रदेश
 - 4. उड़ीसा

Question Type : MCQ

Question ID : 264330134637

Option 1 ID : 264330527506

Option 2 ID : 264330527505

Option 3 ID : 264330527504

Option 4 ID : 264330527503

Status : Answered

Chosen Option : 4

Q.19 कंदरिया महादेव (Kandariya Mahadeva) मंदिर का निर्माण 999 ईस्वी में _____ वंश के राजा ध्रुवदेव ने करवाया था।

- Ans
- 1. चोल
 - 2. पाल
 - 3. पल्लव
 - 4. चंदेल

Question Type : MCQ
Question ID : 264330134641
Option 1 ID : 264330527520
Option 2 ID : 264330527519
Option 3 ID : 264330527522
Option 4 ID : 264330527521
Status : Answered
Chosen Option : 4

Q.20 तुकाराई का युद्ध, जिसमें अकबर ने बंगाल और बिहार की सल्तनत को हराया था, कब लड़ा गया था?

- Ans
- 1. 1582
 - 2. 1564
 - 3. 1591
 - 4. 1575

Question Type : MCQ
Question ID : 264330137725
Option 1 ID : 264330539510
Option 2 ID : 264330539508
Option 3 ID : 264330539507
Option 4 ID : 264330539509
Status : Answered
Chosen Option : 3

Q.21 वायुमंडल की निम्नलिखित परतों में से किसका अर्थ "मिश्रण का क्षेत्र (region of mixing)" है?

- Ans
- 1. मध्यमंडल (Mesosphere)
 - 2. बाह्य वायुमंडल (Thermosphere)
 - 3. समताप मंडल (Stratosphere)
 - 4. क्षोभमंडल (Troposphere)

Question Type : MCQ
Question ID : 264330137719
Option 1 ID : 264330539484
Option 2 ID : 264330539483
Option 3 ID : 264330539486
Option 4 ID : 264330539485
Status : Answered
Chosen Option : 4

Q.22 निम्नलिखित में से किस टीम ने अंतर्राष्ट्रीय क्रिकेट परिषद (ICC) का पुरुष T20 विश्व कप 2021 जीता?

- Ans
- ✓ 1. ऑस्ट्रेलिया
 - ✗ 2. इंग्लैंड
 - ✗ 3. भारत
 - ✗ 4. वेस्ट इंडीज

Question Type : MCQ

Question ID : 264330137734

Option 1 ID : 264330539546

Option 2 ID : 264330539543

Option 3 ID : 264330539544

Option 4 ID : 264330539545

Status : Answered

Chosen Option : 1

Q.23 भारत में, महापाषाण कब्रें (megaliths) बनाने की प्रथा लगभग _____ पहले शुरू हुई थी।

- Ans
- ✓ 1. 3000 साल
 - ✗ 2. 1000 साल
 - ✗ 3. 500 साल
 - ✗ 4. 2000 साल

Question Type : MCQ

Question ID : 264330134069

Option 1 ID : 264330525301

Option 2 ID : 264330525300

Option 3 ID : 264330525302

Option 4 ID : 264330525299

Status : Answered

Chosen Option : 1

Q.24 भारत में किस धार्मिक समूह के लोग नवरोज़ (Nowruz) उत्सव मनाते हैं?

- Ans
- ✗ 1. जैन(Jains)
 - ✓ 2. पारसी(Parsis)
 - ✗ 3. यहूदी (jews)
 - ✗ 4. बौद्ध(Buddhists)

Question Type : MCQ

Question ID : 264330134059

Option 1 ID : 264330525259

Option 2 ID : 264330525262

Option 3 ID : 264330525261

Option 4 ID : 264330525260

Status : Answered

Chosen Option : 2

Q.25 निम्नलिखित में से कौन एक प्रसिद्ध सरोद वादक है?

- Ans
- 1. एन. रमणी
 - 2. विलायत खाँ
 - 3. ज़रीन शर्मा
 - 4. नीलाद्री कुमार

Question Type : MCQ

Question ID : 264330134625

Option 1 ID : 264330527455

Option 2 ID : 264330527457

Option 3 ID : 264330527458

Option 4 ID : 264330527456

Status : Answered

Chosen Option : 2

Section : English Language and Comprehension

Q.1 A sentence has been given with a blank to be filled with an appropriate option. Choose the correct alternative.

There is definitely _____ he is not telling me.

- Ans
- 1. somebody
 - 2. everything
 - 3. something
 - 4. anything

Question Type : MCQ

Question ID : 264330134751

Option 1 ID : 264330527956

Option 2 ID : 264330527958

Option 3 ID : 264330527955

Option 4 ID : 264330527957

Status : Answered

Chosen Option : 3

Q.2 Choose the word that can substitute the given group of words.

Departure from common rule

- Ans
- 1. Pragmatic
 - 2. Stupor
 - 3. Anomaly
 - 4. Quixotic

Question Type : MCQ

Question ID : 264330134760

Option 1 ID : 264330527987

Option 2 ID : 264330527989

Option 3 ID : 264330527990

Option 4 ID : 264330527988

Status : Not Answered

Chosen Option : --

Q.3 Find the part of the given sentence that has an error in it. If there is no error, choose 'No error'.

In humans, consumption of alcohol, stimulate brain cells to release mood-altering dopamine.

- Ans**
- 1. In humans, consumption of alcohol,
 - 2. No error
 - 3. release mood-altering dopamine.
 - 4. stimulate brain cells to

Question Type : **MCQ**
Question ID : **264330134747**
Option 1 ID : **264330527939**
Option 2 ID : **264330527942**
Option 3 ID : **264330527941**
Option 4 ID : **264330527940**
Status : **Answered**
Chosen Option : **4**

Q.4 Select the most appropriate option to fill in the blank.

All the companies make an _____ to be seen and heard within communities.

- Ans**
- 1. effort
 - 2. establishment
 - 3. aisle
 - 4. excuse

Question Type : **MCQ**
Question ID : **264330134552**
Option 1 ID : **264330527165**
Option 2 ID : **264330527164**
Option 3 ID : **264330527163**
Option 4 ID : **264330527166**
Status : **Answered**
Chosen Option : **1**

Q.5 A sentence has been given with a blank to be filled with an appropriate option. Choose the correct alternative.

I am looking forward to _____ you at our favourite restaurant.

- Ans**
- 1. meeting
 - 2. meets
 - 3. met
 - 4. meet

Question Type : **MCQ**
Question ID : **264330134726**
Option 1 ID : **264330527861**
Option 2 ID : **264330527859**
Option 3 ID : **264330527860**
Option 4 ID : **264330527862**
Status : **Answered**
Chosen Option : **4**

Q.6 Select the most appropriate option to fill in the blank.

Jacqueline represents retirement as the final result of a long course of dissatisfaction with _____ life.

- Ans**
- 1. mundane
 - 2. divine
 - 3. barbaric
 - 4. joyful

Question Type : **MCQ**
Question ID : **264330134770**
Option 1 ID : **264330528028**
Option 2 ID : **264330528029**
Option 3 ID : **264330528030**
Option 4 ID : **264330528027**
Status : **Answered**
Chosen Option : **4**

Q.7 Select the most appropriate meaning of the given idiom.

Drastic times call for drastic measures

- Ans**
- 1. Do not pull all your resources in one possibility
 - 2. Don't rely on it until you sure of it
 - 3. Something that ends at the last minute or last few seconds
 - 4. When you are extremely desperate you need to take extremely desperate actions

Question Type : **MCQ**
Question ID : **264330136077**
Option 1 ID : **264330533119**
Option 2 ID : **264330533120**
Option 3 ID : **264330533122**
Option 4 ID : **264330533121**
Status : **Answered**
Chosen Option : **1**

Q.8 Choose the incorrectly spelt word.

- Ans**
- 1. Crops
 - 2. Salute
 - 3. Shout
 - 4. Belieif

Question Type : **MCQ**
Question ID : **264330134767**
Option 1 ID : **264330528016**
Option 2 ID : **264330528015**
Option 3 ID : **264330528018**
Option 4 ID : **264330528017**
Status : **Answered**
Chosen Option : **4**

Q.9 Select the word segment that substitutes (replaces) the bracketed word segment correctly and completes the sentence meaningfully. Select the option 'no correction required' if the sentence is correct as given.

Apple has also introduced a (rule that seemed tie) to its recent dispute with Basecamp.

- Ans**
- 1. rule that seemingly tied
 - 2. rule that seems tied
 - 3. No correction required
 - 4. rule which seemed tie

Question Type : **MCQ**
Question ID : **264330136242**
Option 1 ID : **264330533756**
Option 2 ID : **264330533757**
Option 3 ID : **264330533758**
Option 4 ID : **264330533755**
Status : **Answered**
Chosen Option : **2**

Q.10 Identify the segment that contains a grammatical error. If there is no error, select 'No error'.

What evil magic does / it possess to draw the human / heart so powerful to it?

- Ans**
- 1. What evil magic does
 - 2. it possess to draw the human
 - 3. heart so powerful to it?
 - 4. No error

Question Type : **MCQ**
Question ID : **264330136239**
Option 1 ID : **264330533743**
Option 2 ID : **264330533744**
Option 3 ID : **264330533745**
Option 4 ID : **264330533746**
Status : **Answered**
Chosen Option : **3**

Q.11 Select the appropriate antonym for the underlined word.

Megan, my precious darling, where is the kettle?

- Ans**
- 1. detested
 - 2. expensive
 - 3. beloved
 - 4. steep

Question Type : **MCQ**
Question ID : **264330134764**
Option 1 ID : **264330528006**
Option 2 ID : **264330528004**
Option 3 ID : **264330528003**
Option 4 ID : **264330528005**
Status : **Answered**
Chosen Option : **1**

Q.12 Select the most appropriate antonym of the given word.

Wicked

- Ans**
- 1. Sarcastic
 - 2. Admirable
 - 3. Infernal
 - 4. Dissent

Question Type : **MCQ**
Question ID : **264330136049**
Option 1 ID : **264330533011**
Option 2 ID : **264330533012**
Option 3 ID : **264330533014**
Option 4 ID : **264330533013**
Status : **Answered**
Chosen Option : **2**

Q.13 In the following question, out of the given four alternatives, select the alternative which best expresses the meaning of the Idiom/Phrase.

To stretch one's legs

- Ans**
- 1. To go for a walk after you have been sitting for a long time
 - 2. To measure one's worth
 - 3. To leave a place without permission
 - 4. To go for a party

Question Type : **MCQ**
Question ID : **264330134766**
Option 1 ID : **264330528012**
Option 2 ID : **264330528011**
Option 3 ID : **264330528013**
Option 4 ID : **264330528014**
Status : **Answered**
Chosen Option : **4**

Q.14 Find the part of the given sentence that has an error in it. If there is no error, choose 'No error'.

I spend a lot of my time at work helping my customers find an best outfit.

- Ans**
- 1. my time at work helping my
 - 2. customers find an best outfit.
 - 3. I spend a lot of
 - 4. No error

Question Type : **MCQ**
Question ID : **264330134745**
Option 1 ID : **264330527932**
Option 2 ID : **264330527933**
Option 3 ID : **264330527931**
Option 4 ID : **264330527934**
Status : **Answered**
Chosen Option : **2**

Q.15 Choose the sentence with no spelling error.

- Ans 1. The two are in most casies mutually exclusive.
 2. The two are in most cases mutualy exclusive.
 3. The two are in most cases mutualy exclusive.
 4. The two are in most cases mutually exclusive.

Question Type : **MCQ**
Question ID : **264330134551**
Option 1 ID : **264330527161**
Option 2 ID : **264330527162**
Option 3 ID : **264330527160**
Option 4 ID : **264330527159**
Status : **Answered**
Chosen Option : **4**

Q.16 Choose the word that means the same as the given word.

Aptitude

- Ans 1. Attitude
 2. Talent
 3. Stress
 4. Faith

Question Type : **MCQ**
Question ID : **264330134736**
Option 1 ID : **264330527895**
Option 2 ID : **264330527897**
Option 3 ID : **264330527898**
Option 4 ID : **264330527896**
Status : **Answered**
Chosen Option : **2**

Q.17 Select the most appropriate word for the given group of words.

The sound of elephants

- Ans 1. Quack
 2. Trumpet
 3. Laurel
 4. Screech

Question Type : **MCQ**
Question ID : **264330136071**
Option 1 ID : **264330533098**
Option 2 ID : **264330533097**
Option 3 ID : **264330533095**
Option 4 ID : **264330533096**
Status : **Answered**
Chosen Option : **2**

Q.18 Improve the underlined part of the sentence. Choose 'No improvement' as an answer if the sentence is grammatically correct.

Since 1950 the number of children in secondary schools has been increasing noticeably.

- Ans**
- 1. No improvement
 - 2. have increasingly noticeably
 - 3. has been increasing noticeably
 - 4. increasingly noticeable

Question Type : **MCQ**
Question ID : **264330134776**
Option 1 ID : **264330528054**
Option 2 ID : **264330528052**
Option 3 ID : **264330528051**
Option 4 ID : **264330528053**
Status : **Answered**
Chosen Option : **3**

Q.19 Select the appropriate synonym for the underlined word.

Immediate relocation is your best course of action.

- Ans**
- 1. expiration
 - 2. migration
 - 3. ending
 - 4. emergence

Question Type : **MCQ**
Question ID : **264330134761**
Option 1 ID : **264330527992**
Option 2 ID : **264330527991**
Option 3 ID : **264330527994**
Option 4 ID : **264330527993**
Status : **Answered**
Chosen Option : **2**

Q.20 Improve the underlined part of the sentence. Choose 'No improvement' as an answer if the sentence is grammatically correct.
She was fined of driving over the speed limit.

- Ans**
- 1. No improvement
 - 2. fined for drive
 - 3. fine of driving
 - 4. fined for driving

Question Type : **MCQ**
Question ID : **264330134428**
Option 1 ID : **264330526690**
Option 2 ID : **264330526688**
Option 3 ID : **264330526687**
Option 4 ID : **264330526689**
Status : **Answered**
Chosen Option : **4**

Comprehension:

In the following passage some words have been deleted. Fill in the blanks with the help of the alternatives given. Select the most appropriate option for each number.

In the early 1920's, settlers came to Alaska looking for (1) _____. They travelled by boat to the coastal towns of Seward and Knik, and from there by land into the gold fields. The trail they used to (2) _____ inland is known today as the Iditarod Trail, one of the National Historic Trails designated (3) _____ the Congress of the United States. The Iditarod Trail quickly became a major thoroughfare in Alaska, as the mail and supplies were (4) _____ across this trail. People also used it to get from place to place, including the priests, ministers, and judges who had to travel between villages. In the winter, the settlers' only means of travel down this trail was via dog (5) _____.

SubQuestion No : 21

Q.21 Select the most appropriate option to fill in the blank No. 1.

- Ans**
- 1. silver
 - 2. gold
 - 3. copper
 - 4. iron

Question Type : **MCQ**
Question ID : **264330136040**
Option 1 ID : **264330532977**
Option 2 ID : **264330532978**
Option 3 ID : **264330532975**
Option 4 ID : **264330532976**
Status : **Answered**
Chosen Option : **2**

Comprehension:

In the following passage some words have been deleted. Fill in the blanks with the help of the alternatives given. Select the most appropriate option for each number.

In the early 1920's, settlers came to Alaska looking for (1) _____. They travelled by boat to the coastal towns of Seward and Knik, and from there by land into the gold fields. The trail they used to (2) _____ inland is known today as the Iditarod Trail, one of the National Historic Trails designated (3) _____ the Congress of the United States. The Iditarod Trail quickly became a major thoroughfare in Alaska, as the mail and supplies were (4) _____ across this trail. People also used it to get from place to place, including the priests, ministers, and judges who had to travel between villages. In the winter, the settlers' only means of travel down this trail was via dog (5) _____.

SubQuestion No : 22

Q.22 Select the most appropriate option to fill in the blank No. 2.

- Ans**
- 1. submerge
 - 2. locate
 - 3. travel
 - 4. navigate

Question Type : **MCQ**
Question ID : **264330136041**
Option 1 ID : **264330532981**
Option 2 ID : **264330532982**
Option 3 ID : **264330532979**
Option 4 ID : **264330532980**
Status : **Answered**
Chosen Option : **3**

Comprehension:

In the following passage some words have been deleted. Fill in the blanks with the help of the alternatives given. Select the most appropriate option for each number.

In the early 1920's, settlers came to Alaska looking for (1) _____. They travelled by boat to the coastal towns of Seward and Knik, and from there by land into the gold fields. The trail they used to (2) _____ inland is known today as the Iditarod Trail, one of the National Historic Trails designated (3) _____ the Congress of the United States. The Iditarod Trail quickly became a major thoroughfare in Alaska, as the mail and supplies were (4) _____ across this trail. People also used it to get from place to place, including the priests, ministers, and judges who had to travel between villages. In the winter, the settlers' only means of travel down this trail was via dog (5) _____.

SubQuestion No : 23

Q.23 Select the most appropriate option to fill in the blank No. 3.

- Ans**
- 1. by
 - 2. in
 - 3. at
 - 4. of

Question Type : **MCQ**
Question ID : **264330136042**
Option 1 ID : **264330532986**
Option 2 ID : **264330532984**
Option 3 ID : **264330532983**
Option 4 ID : **264330532985**
Status : **Answered**
Chosen Option : **1**

Comprehension:

In the following passage some words have been deleted. Fill in the blanks with the help of the alternatives given. Select the most appropriate option for each number.

In the early 1920's, settlers came to Alaska looking for (1) _____. They travelled by boat to the coastal towns of Seward and Knik, and from there by land into the gold fields. The trail they used to (2) _____ inland is known today as the Iditarod Trail, one of the National Historic Trails designated (3) _____ the Congress of the United States. The Iditarod Trail quickly became a major thoroughfare in Alaska, as the mail and supplies were (4) _____ across this trail. People also used it to get from place to place, including the priests, ministers, and judges who had to travel between villages. In the winter, the settlers' only means of travel down this trail was via dog (5) _____.

SubQuestion No : 24

Q.24 Select the most appropriate option to fill in the blank No. 4.

- Ans**
- 1. carried
 - 2. transported
 - 3. imported
 - 4. deported

Question Type : **MCQ**
Question ID : **264330136043**
Option 1 ID : **264330532987**
Option 2 ID : **264330532990**
Option 3 ID : **264330532988**
Option 4 ID : **264330532989**
Status : **Answered**
Chosen Option : **2**

Comprehension:

In the following passage some words have been deleted. Fill in the blanks with the help of the alternatives given. Select the most appropriate option for each number.

In the early 1920's, settlers came to Alaska looking for (1) _____. They travelled by boat to the coastal towns of Seward and Knik, and from there by land into the gold fields. The trail they used to (2) _____ inland is known today as the Iditarod Trail, one of the National Historic Trails designated (3) _____ the Congress of the United States. The Iditarod Trail quickly became a major thoroughfare in Alaska, as the mail and supplies were (4) _____ across this trail. People also used it to get from place to place, including the priests, ministers, and judges who had to travel between villages. In the winter, the settlers' only means of travel down this trail was via dog (5) _____.

SubQuestion No : 25

Q.25 Select the most appropriate option to fill in the blank No. 5.

- Ans**
- 1. bark
 - 2. smell
 - 3. sled
 - 4. boat

Question Type : **MCQ**

Question ID : **264330136044**

Option 1 ID : **264330532993**

Option 2 ID : **264330532994**

Option 3 ID : **264330532991**

Option 4 ID : **264330532992**

Status : **Answered**

Chosen Option : **3**

Multi Tasking Non Technical Staff and Havaladar CBIC and CBN Examination 2022

Roll Number	KD Job Updates
Candidate Name	KD Job Updates
Venue Name	R K Digital Computer Centre 1
Exam Date	16/05/2023
Exam Time	9:00 AM - 10:30 AM
Subject	MTS Non Tech Havaladar CBIC and CBN Examination 2022

Section : Numerical and Mathematical Ability

Q.1 एक कार निर्धारित समय से 4 घंटे देरी से निकलती है लेकिन 480 km दूर अपने गंतव्य तक समय पर पहुँचने के लिए उसे अपनी सामान्य चाल को 10 km/hr से बढ़ाना पड़ता है। कार की सामान्य चाल क्या है?

- Ans
- 1. 40 km/hr
 - 2. 30 km/hr
 - 3. 60 km/hr
 - 4. 50 km/hr

Question Type : MCQ
Question ID : 264330137154
Option 1 ID : 264330537262
Option 2 ID : 264330537261
Option 3 ID : 264330537260
Option 4 ID : 264330537259
Status : Answered
Chosen Option : 2

Q.2 $\sqrt{[(7^2 + 6^3 + 9^2) \div 2 + 52]}$ का मान ज्ञात कीजिए।

- Ans
- 1. 16
 - 2. 14
 - 3. 15
 - 4. 13

Question Type : MCQ
Question ID : 264330135413
Option 1 ID : 264330530562
Option 2 ID : 264330530559
Option 3 ID : 264330530561
Option 4 ID : 264330530560
Status : Answered
Chosen Option : 3

Q.3 एक लम्बवृत्तीय शंकु की ऊँचाई 24 cm है। यदि इसके आधार का व्यास 36 cm है, तो शंकु का वक्र पृष्ठीय क्षेत्रफल कितना होगा?

- Ans
- ✗ 1. 2144.2 cm²
 - ✗ 2. 2400.9 cm²
 - ✓ 3. 1697.14 cm²
 - ✗ 4. 1444.6 cm²

Question Type : MCQ

Question ID : 264330135151

Option 1 ID : 264330529541

Option 2 ID : 264330529540

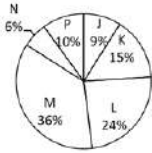
Option 3 ID : 264330529539

Option 4 ID : 264330529542

Status : Answered

Chosen Option : 2

Q.4 नीचे दिए गए वृत्त आलेख में छः विद्यालयों में पढ़ने वाले छात्रों की संख्या को दर्शाया गया है। इन सभी छः विद्यालयों में पढ़ने वाले छात्रों की कुल संख्या 7000 है। इनमें से किसी एक विशिष्ट विद्यालय में पढ़ने वाले छात्रों की संख्या को इन सभी छः विद्यालयों में पढ़ने वाले छात्रों की कुल संख्या के प्रतिशत के रूप में दर्शाया गया है।



विद्यालय K और L में पढ़ने वाले छात्रों की औसत संख्या और विद्यालय M और N में पढ़ने वाले छात्रों की औसत संख्या के बीच कितना अंतर है?

- Ans
- ✗ 1. 85
 - ✗ 2. 115
 - ✗ 3. 90
 - ✓ 4. 105

Question Type : MCQ

Question ID : 264330137173

Option 1 ID : 264330537338

Option 2 ID : 264330537335

Option 3 ID : 264330537336

Option 4 ID : 264330537337

Status : Answered

Chosen Option : 4

Q.5 14 कर्मचारी प्रतिदिन 16 घंटे कार्य करके एक इमारत को 81 दिनों में गिरा सकते हैं। 18 कर्मचारी 24 घंटे प्रतिदिन कार्य करके उसी इमारत को कितने दिनों में गिरा सकते हैं?

- Ans
- ✗ 1. 70 दिन
 - ✓ 2. 42 दिन
 - ✗ 3. 54 दिन
 - ✗ 4. 30 दिन

Question Type : MCQ

Question ID : 264330135146

Option 1 ID : 264330529520

Option 2 ID : 264330529522

Option 3 ID : 264330529519

Option 4 ID : 264330529521

Status : Answered

Chosen Option : 2

Q.6 दिए गए डेटा में वर्ष 2018, 2019 और 2020 में कंपनियों C1, C2, C3 और C4 द्वारा निर्मित मोबाइल की संख्या को (हजारों में) दर्शाया गया है। किस कंपनी ने सभी वर्षों में कुल मिलाकर सबसे कम मोबाइलों का निर्माण किया?

Company	2018	2019	2020
C1	44	33	70
C2	32	54	50
C3	72	63	82
C4	84	71	49

Company - कंपनी

- Ans
- 1. C3
 - 2. C1
 - 3. C2
 - 4. C4

Question Type : MCQ

Question ID : 264330135429

Option 1 ID : 264330530625

Option 2 ID : 264330530624

Option 3 ID : 264330530626

Option 4 ID : 264330530623

Status : Answered

Chosen Option : 3

Q.7 8 संख्याओं का औसत 44 है। पहली तीन संख्याओं का औसत 50 है और अगली दो संख्याओं का औसत 52 है। यदि छठी संख्या क्रमशः सातवीं और आठवीं संख्या से 6 और 8 कम है, तो आठवीं संख्या का मान क्या है?

- Ans
- 1. 36
 - 2. 56
 - 3. 32
 - 4. 40

Question Type : MCQ

Question ID : 264330138019

Option 1 ID : 264330540683

Option 2 ID : 264330540686

Option 3 ID : 264330540685

Option 4 ID : 264330540684

Status : Answered

Chosen Option : 3

Q.8 साधारण ब्याज पर एक धनराशि 3 वर्षों में Rs.5704 और 4 वर्षों में Rs.6072 हो जाती है। वह धनराशि है:

- Ans
- 1. Rs.4980
 - 2. Rs.5020
 - 3. Rs.4800
 - 4. Rs.4600

Question Type : MCQ

Question ID : 264330138100

Option 1 ID : 264330541010

Option 2 ID : 264330541008

Option 3 ID : 264330541009

Option 4 ID : 264330541007

Status : Answered

Chosen Option : 4

Q.9 Rs. 8400 की राशि पर 2 वर्ष के लिए 10% वार्षिक दर पर वार्षिक रूप से संयोजित चक्रवृद्धि ब्याज कितना होगा?

- Ans
- 1. Rs. 840
 - 2. Rs. 5064
 - 3. Rs. 10164
 - 4. Rs. 1764

Question Type : MCQ
Question ID : 264330138048
Option 1 ID : 264330540800
Option 2 ID : 264330540801
Option 3 ID : 264330540799
Option 4 ID : 264330540802
Status : Answered
Chosen Option : 4

Q.10 Rs. 15000 को E, F और G के बीच बाँटा जाता है। E के हिस्से और F के हिस्से का अनुपात 3: 2 है। F के हिस्से और G के हिस्से का अनुपात 6: 5 है। F को कितनी धनराशि प्राप्त होगी?

- Ans
- 1. Rs. 6750
 - 2. Rs. 4500
 - 3. Rs. 3750
 - 4. Rs. 6000

Question Type : MCQ
Question ID : 264330137162
Option 1 ID : 264330537293
Option 2 ID : 264330537292
Option 3 ID : 264330537294
Option 4 ID : 264330537291
Status : Answered
Chosen Option : 2

Q.11 50 वस्तुओं का क्रय मूल्य, x वस्तुओं के विक्रय मूल्य के समान है। यदि 25 प्रतिशत का लाभ होता है, तो x का मान क्या है? (सभी वस्तुओं का विक्रय मूल्य समान है। सभी वस्तुओं का क्रय मूल्य भी समान है)

- Ans
- 1. 30
 - 2. 25
 - 3. 40
 - 4. 20

Question Type : MCQ
Question ID : 264330137160
Option 1 ID : 264330537284
Option 2 ID : 264330537285
Option 3 ID : 264330537283
Option 4 ID : 264330537286
Status : Answered
Chosen Option : 3

Q.12 एक व्यापारी ने Rs. 1488 अंकित मूल्य वाले ट्रॉली बैग पर 25 प्रतिशत की छूट दी और 20 प्रतिशत का लाभ अर्जित किया। ट्रॉली बैग का क्रय मूल्य क्या है?

- Ans
- 1. Rs. 960
 - 2. Rs. 880
 - 3. Rs. 908
 - 4. Rs. 930

Question Type : MCQ

Question ID : 264330137165

Option 1 ID : 264330537305

Option 2 ID : 264330537306

Option 3 ID : 264330537304

Option 4 ID : 264330537303

Status : Answered

Chosen Option : 4

Q.13 एक संख्या में 20% की वृद्धि की जाती है और फिर उसमें 20% की कमी की जाती है। संख्या में निवल प्रतिशत परिवर्तन कितना हुआ?

- Ans
- 1. 4% की कमी
 - 2. 4% की वृद्धि
 - 3. 5% की वृद्धि
 - 4. 5% की कमी

Question Type : MCQ

Question ID : 264330138041

Option 1 ID : 264330540771

Option 2 ID : 264330540773

Option 3 ID : 264330540774

Option 4 ID : 264330540772

Status : Answered

Chosen Option : 1

Q.14 एक वस्तु को Rs.425 में बेचने पर एक दुकानदार को 15% की हानि होती है। 20% का लाभ अर्जित करने के लिए उसे वस्तु को किस मूल्य पर बेचना चाहिए?

- Ans
- 1. Rs.800
 - 2. Rs.600
 - 3. Rs.400
 - 4. Rs.1000

Question Type : MCQ

Question ID : 264330138095

Option 1 ID : 264330540989

Option 2 ID : 264330540988

Option 3 ID : 264330540987

Option 4 ID : 264330540990

Status : Answered

Chosen Option : 2

Q.15 वह सबसे छोटी संख्या, जिसे 14, 18 और 36 से भाग देने पर प्रत्येक स्थिति में शेषफल 1 बचता है, _____ है।

- Ans
- 1. 250
 - 2. 251
 - 3. 252
 - 4. 253

Question Type : MCQ

Question ID : 264330138037

Option 1 ID : 264330540757

Option 2 ID : 264330540758

Option 3 ID : 264330540755

Option 4 ID : 264330540756

Status : Answered

Chosen Option : 4

Q.16 रेशमा अकेले किसी कार्य को 14 दिनों में कर सकती है। भावना, रेशमा से 40% अधिक कुशल है। भावना अकेले उसी कार्य को करने में कितने दिन लेगी?

- Ans
- 1. 28 दिन
 - 2. 40 दिन
 - 3. 10 दिन
 - 4. 14 दिन

Question Type : MCQ

Question ID : 264330138714

Option 1 ID : 264330543465

Option 2 ID : 264330543466

Option 3 ID : 264330543463

Option 4 ID : 264330543464

Status : Answered

Chosen Option : 3

Q.17 9 संख्याओं का औसत 47 है। यदि एक संख्या को निकाल दिया जाए तो औसत 48 हो जाता है। कौन-सी संख्या निकाली गई?

- Ans
- 1. 39
 - 2. 45
 - 3. 40
 - 4. 42

Question Type : MCQ

Question ID : 264330137155

Option 1 ID : 264330537263

Option 2 ID : 264330537266

Option 3 ID : 264330537265

Option 4 ID : 264330537264

Status : Answered

Chosen Option : 1

Q.18 दो वृत्तों की परिधि के बीच का अंतर 4.4 cm है और छोटे वृत्त की त्रिज्या 1.4 cm है। बड़े वृत्त की त्रिज्या कितनी है?

- Ans
- 1. 3.5 cm
 - 2. 4.1 cm
 - 3. 2.1 cm
 - 4. 0.7 cm

Question Type : MCQ
Question ID : 264330138718
Option 1 ID : 264330543480
Option 2 ID : 264330543482
Option 3 ID : 264330543481
Option 4 ID : 264330543479
Status : Answered
Chosen Option : 2

Q.19 25, 15 और 75 का महत्तम समापवर्तक क्या है?

- Ans
- 1. 7
 - 2. 15
 - 3. 25
 - 4. 5

Question Type : MCQ
Question ID : 264330137169
Option 1 ID : 264330537319
Option 2 ID : 264330537322
Option 3 ID : 264330537320
Option 4 ID : 264330537321
Status : Answered
Chosen Option : 2

Q.20 यदि $X : Y = 3 : 2$, तो $(X - Y) : (X + Y)$ का मान क्या है?

- Ans
- 1. 3 : 7
 - 2. 1 : 5
 - 3. 4 : 5
 - 4. 8 : 9

Question Type : MCQ
Question ID : 264330137161
Option 1 ID : 264330537290
Option 2 ID : 264330537287
Option 3 ID : 264330537288
Option 4 ID : 264330537289
Status : Answered
Chosen Option : 2

Q.1 उस विकल्प को चुनिए जो पाँचवें पद से ठीक उसी प्रकार संबंधित है जिस प्रकार दूसरा पद पहले पद से संबंधित है और चौथा पद तीसरे पद से संबंधित है।

T3G : V16L :: R29A : T42F :: M43P : ?

- Ans**
- 1. P56V
 - 2. O56V
 - 3. O56U
 - 4. P56U

Question Type : **MCQ**

Question ID : **264330137110**

Option 1 ID : **264330537086**

Option 2 ID : **264330537085**

Option 3 ID : **264330537083**

Option 4 ID : **264330537084**

Status : **Answered**

Chosen Option : **3**

Q.2 यदि A का अर्थ 'जोड़', B का अर्थ 'गुणा', C का अर्थ 'घटाव' और D का अर्थ 'भाग' हो, तो निम्नलिखित समीकरण का मान क्या होगा?

7 A (18 D 3) C 5 =?

- Ans**
- 1. 18
 - 2. 8
 - 3. 13
 - 4. 5

Question Type : **MCQ**

Question ID : **264330137870**

Option 1 ID : **264330540089**

Option 2 ID : **264330540090**

Option 3 ID : **264330540088**

Option 4 ID : **264330540087**

Status : **Answered**

Chosen Option : **2**

Q.3 निम्नलिखित प्रश्न में कुछ कथन दिए गए हैं और उन कथनों के आधार पर कुछ निष्कर्ष दिए गए हैं। आपको यह मानना है कि दिए गए कथन सत्य हैं चाहे वे सामान्यतः ज्ञात तथ्यों से अलग प्रतीत होते हों। सभी निष्कर्षों को पढ़िए और फिर निश्चय कीजिए कि दिए गए निष्कर्षों में से कौन-सा निष्कर्ष तार्किक रूप से दिए गए कथनों के अनुसार है।

कथन:

- I. कुछ B, T हैं।
- II. कोई K, B नहीं है।

निष्कर्ष:

- I. कोई B, K नहीं है।
- II. कुछ T, B हैं।
- III. कुछ T, K हैं।

Ans

- 1. सभी निष्कर्ष कथनों के अनुसार हैं
- 2. दोनों निष्कर्ष I और II कथनों के अनुसार हैं
- 3. दोनों निष्कर्ष I और III कथनों के अनुसार हैं
- 4. कोई भी निष्कर्ष कथनों के अनुसार नहीं है

Question Type : MCQ

Question ID : 264330137120

Option 1 ID : 264330537125

Option 2 ID : 264330537123

Option 3 ID : 264330537124

Option 4 ID : 264330537126

Status : Answered

Chosen Option : 2

Q.4 निम्नलिखित प्रश्न में, दी गई श्रृंखला में लुप्त संख्या को चुनिए।

3, 9, 54, 648, 15552, ?

Ans

- 1. 124583
- 2. 746946
- 3. 746496
- 4. 78342

Question Type : MCQ

Question ID : 264330137122

Option 1 ID : 264330537132

Option 2 ID : 264330537133

Option 3 ID : 264330537134

Option 4 ID : 264330537131

Status : Answered

Chosen Option : 3

Q.5 दिए गए दो चिन्हों को आपस में बदलने पर, दिए गए समीकरण का मान क्या होगा?

× और ÷ ; $25 + 5 \times 35 \div 7 - 26$

- Ans
- ✗ 1. 51
 - ✗ 2. 50
 - ✓ 3. 0
 - ✗ 4. 10

Question Type : MCQ

Question ID : 264330137125

Option 1 ID : 264330537145

Option 2 ID : 264330537143

Option 3 ID : 264330537144

Option 4 ID : 264330537146

Status : Answered

Chosen Option : 3

Q.6 (::) के बाईं ओर दिए गए शब्द आपस में किसी तर्क/नियम/संबंध द्वारा संबंधित हैं। समान तर्क/नियम/संबंध के आधार पर दिए गए विकल्पों में से (::) के दाईं ओर लुप्त शब्द/शब्द युग्म को चुनिए।

गाय : शाकाहारी :: ?

- Ans
- ✗ 1. भेड़ : माँसाहारी
 - ✗ 2. माँसाहारी : शेर
 - ✓ 3. हाथी : शाकाहारी
 - ✗ 4. बकरी : माँसाहारी

Question Type : MCQ

Question ID : 264330137111

Option 1 ID : 264330537087

Option 2 ID : 264330537090

Option 3 ID : 264330537089

Option 4 ID : 264330537088

Status : Answered

Chosen Option : 3

Q.7 उस विकल्प को चुनिए जिसमें समुच्चय की संख्याएँ वही संबंध साझा करती हैं जो दिए गए समुच्चय में संख्याओं द्वारा साझा किया जाता है। (ध्यान दें: संख्याओं को उनके घटक अंकों में अलग-अलग किए बिना, पूर्ण संख्याओं पर संक्रियाएँ की जानी चाहिए। उदा. 13 - 13 पर संक्रियाएँ जैसे 13 को जोड़ना /घटाना /गुणा करना आदि किया जा सकता है। 13 को 1 और 3 में अलग-अलग करने की और फिर 1 और 3 पर गणितीय संक्रियाएँ करने की अनुमति नहीं है)

(10, 30, 90)

(20, 60, 180)

- Ans**
- 1. (30, 60, 90)
 - 2. (30, 90, 310)
 - 3. (30, 45, 60)
 - 4. (30, 90, 270)

Question Type : **MCQ**

Question ID : **264330137124**

Option 1 ID : **264330537139**

Option 2 ID : **264330537142**

Option 3 ID : **264330537141**

Option 4 ID : **264330537140**

Status : **Answered**

Chosen Option : **4**

Q.8 आठ मित्र अनिल, कमल, राम, संजय, आकाश, विवेक, राहुल और रामू एक वृत्ताकार मेज के चारों ओर केंद्र की ओर मुख करके बैठे हैं (परंतु जरूरी नहीं कि वे इसी क्रम में बैठें हों)। राम, अनिल के ठीक दाईं ओर है। अनिल, संजय के दाईं ओर से चौथे स्थान पर है। राहुल, आकाश के बाईं ओर से चौथे स्थान पर है। आकाश, अनिल के बाईं ओर से दूसरे स्थान पर है। रामू, कमल के बाईं ओर से दूसरे स्थान पर है। विवेक, कमल के दाईं ओर से दूसरे स्थान पर है। विवेक के दाईं ओर से दूसरे स्थान पर कौन है?

- Ans**
- 1. राम
 - 2. आकाश
 - 3. रामू
 - 4. विवेक

Question Type : **MCQ**

Question ID : **264330137117**

Option 1 ID : **264330537112**

Option 2 ID : **264330537113**

Option 3 ID : **264330537111**

Option 4 ID : **264330537114**

Status : **Answered**

Chosen Option : **1**

Q.9 एक लिखित कूट भाषा में, 'HAND' को 'SZMW' लिखा जाता है। उस कूट भाषा में 'BODY' को कैसे लिखा जाएगा?

- Ans**
- 1. YLWE
 - 2. YWLB
 - 3. YLWB
 - 4. BLWY

Question Type : **MCQ**

Question ID : **264330133700**

Option 1 ID : **264330523826**

Option 2 ID : **264330523824**

Option 3 ID : **264330523823**

Option 4 ID : **264330523825**

Status : **Answered**

Chosen Option : **3**

Q.10 दी गई श्रृंखला में निम्नलिखित में से कौन-सी संख्या प्रश्न चिन्ह (?) के स्थान पर आएगी?
16, 21, 31, 46, 66, 91, ?

- Ans
- 1. 243
 - 2. 211
 - 3. 121
 - 4. 112

Question Type : MCQ

Question ID : 264330137843

Option 1 ID : 264330539980

Option 2 ID : 264330539982

Option 3 ID : 264330539979

Option 4 ID : 264330539981

Status : Answered

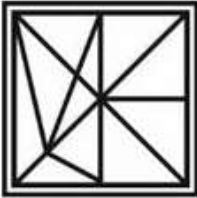
Chosen Option : 3

Q.11 उस विकल्प आकृति को चुनिए जिसमें दी गई आकृति निहित है। (घूर्णन की अनुमति नहीं है)



Ans

1.



2.



3.



4.



Question Type : MCQ

Question ID : 264330135634

Option 1 ID : 264330531438

Option 2 ID : 264330531436

Option 3 ID : 264330531437

Option 4 ID : 264330531435

Status : Answered

Chosen Option : 4

Q.12 छः शब्दों B1, B2, B3, B4, B5 और B6 में अक्षरों की संख्या की तुलना की जाती है। B1 में अक्षरों की संख्या सबसे कम है। B4 में अक्षरों की संख्या B1 से अधिक लेकिन B2 से कम है। B6 में अक्षरों की संख्या B3 और B5 से अधिक है। B3 में अक्षरों की संख्या B2 से अधिक है। यदि B5 में अक्षरों की संख्या B3 से अधिक है, तो कितने शब्दों के अक्षरों की संख्या B4 में अक्षरों की संख्या से कम है?

- Ans**
- 1. 2
 - 2. 1
 - 3. 4
 - 4. 3

Question Type : **MCQ**
Question ID : **264330137118**
Option 1 ID : **264330537116**
Option 2 ID : **264330537115**
Option 3 ID : **264330537118**
Option 4 ID : **264330537117**
Status : **Answered**
Chosen Option : **3**

Q.13 आठ मित्र राहुल, राम, रमेश, सोहन, साहिल, अनिल, सोनू और मोनू एक वृत्ताकार मेज के चारों ओर केंद्र की ओर मुख करके बैठे हैं (परंतु जरूरी नहीं कि वे इसी क्रम में बैठें हों)। साहिल, सोनू के बाईं ओर से तीसरे स्थान पर है। सोनू, राम के ठीक दाईं ओर है। राम, राहुल के बाईं ओर से तीसरे स्थान पर है। मोनू, अनिल के दाईं ओर से दूसरे स्थान पर है। अनिल, साहिल का निकटतम पड़ोसी नहीं है। सोहन, राम का निकटतम पड़ोसी नहीं है। राम के बाईं ओर से तीसरे स्थान पर कौन है?

- Ans**
- 1. सोहन
 - 2. राहुल
 - 3. सोनू
 - 4. साहिल

Question Type : **MCQ**
Question ID : **264330137116**
Option 1 ID : **264330537107**
Option 2 ID : **264330537110**
Option 3 ID : **264330537108**
Option 4 ID : **264330537109**
Status : **Answered**
Chosen Option : **1**

Q.14 एक निश्चित कूट भाषा में, 'CENTRE' को '982748' लिखा जाता है, 'DEVICE' को '583098' लिखा जाता है। उस कूट भाषा में 'DIRECT' को कैसे लिखा जाएगा?

- Ans**
- 1. 506897
 - 2. 564897
 - 3. 694879
 - 4. 504897

Question Type : **MCQ**
Question ID : **264330138545**
Option 1 ID : **264330542787**
Option 2 ID : **264330542790**
Option 3 ID : **264330542789**
Option 4 ID : **264330542788**
Status : **Answered**
Chosen Option : **4**

Q.15 उस विकल्प को चुनिए जो तीसरी संख्या से ठीक उसी प्रकार संबंधित है जिस प्रकार दूसरी संख्या पहली संख्या से संबंधित है।

64 : 15 :: 88 : ?

Ans 1. 12

2. 21

3. 7

4. 31

Question Type : **MCQ**

Question ID : **264330137845**

Option 1 ID : **264330539989**

Option 2 ID : **264330539988**

Option 3 ID : **264330539990**

Option 4 ID : **264330539987**

Status : **Answered**

Chosen Option : **2**

Q.16 एक निश्चित कूट भाषा में, 'SLDDER' को 'PEBDJS' लिखा जाता है। उस कूट भाषा में 'TALLER' को कैसे लिखा जाएगा?

Ans 1. PEJLYT

2. PDJLYT

3. PEJMYT

4. PEJLTY

Question Type : **MCQ**

Question ID : **264330137092**

Option 1 ID : **264330537011**

Option 2 ID : **264330537013**

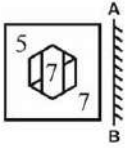
Option 3 ID : **264330537014**

Option 4 ID : **264330537012**

Status : **Answered**

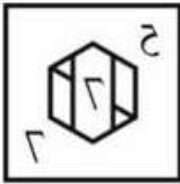
Chosen Option : **1**

Q.17 यदि रेखा AB पर एक दर्पण रखा जाए, तो दी गई विकल्प आकृतियों में से कौन-सी प्रश्न आकृति का सही प्रतिबिंब होगी?



Ans

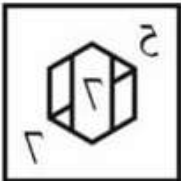
✓ 1.



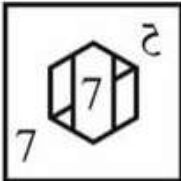
✗ 2.



✗ 3.



✗ 4.



Question Type : MCQ

Question ID : 264330135635

Option 1 ID : 264330531439

Option 2 ID : 264330531442

Option 3 ID : 264330531441

Option 4 ID : 264330531440

Status : Answered

Chosen Option : 1

Q.18 निम्नलिखित प्रश्न में कुछ कथन दिए गए हैं और उन कथनों के आधार पर कुछ निष्कर्ष दिए गए हैं। आपको यह मानना है कि दिए गए कथन सत्य हैं चाहे वे सामान्यतः ज्ञात तथ्यों से अलग प्रतीत होते हों। सभी निष्कर्षों को पढ़िए और फिर निश्चय कीजिए कि दिए गए निष्कर्षों में से कौन-सा निष्कर्ष तार्किक रूप से दिए गए कथनों के अनुसार है।

कथन:

- I. कुछ S, P हैं।
- II. कोई P, L नहीं है।

निष्कर्ष:

- I. सभी S, P हैं।
- II. सभी L, S हैं।

Ans

- 1. केवल निष्कर्ष I कथनों के अनुसार है
- 2. कोई भी निष्कर्ष कथनों के अनुसार नहीं है
- 3. केवल निष्कर्ष II कथनों के अनुसार है
- 4. दोनों निष्कर्ष I और II कथनों के अनुसार हैं

Question Type : MCQ

Question ID : 264330137119

Option 1 ID : 264330537119

Option 2 ID : 264330537122


Option 3 ID : 264330537120

Option 4 ID : 264330537121

Status : Answered

Chosen Option : 2

Q.19 कौन-सी उत्तर आकृति प्रश्न आकृति में दिए गए पैटर्न को पूरा करेगी? (घूर्णन की अनुमति नहीं है)




Ans

✓ 1.



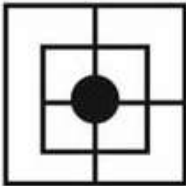
✗ 2.



✗ 3.



✗ 4.



Question Type : MCQ

Question ID : 264330137129

Option 1 ID : 264330537161

Option 2 ID : 264330537160

Option 3 ID : 264330537162

Option 4 ID : 264330537159

Status : Answered

Chosen Option : 1

Q.20 एक श्रृंखला दी गई है जिसमें एक पद लुप्त है। दिए गए विकल्पों में से उस सही विकल्प को चुनिए जो श्रृंखला को पूरा करेगा।

RAIR, UBLS, XCOT, ADRU, ?

- Ans
- 1. DFUV
 - 2. DEUV
 - 3. DEVV
 - 4. DFFV

Question Type : MCQ

Question ID : 264330137108

Option 1 ID : 264330537076

Option 2 ID : 264330537077

Option 3 ID : 264330537078

Option 4 ID : 264330537075

Status : Answered

Chosen Option : 2

Section : General Awareness

Q.1 चोरी चौरा कांड कब हुआ था?

- Ans
- 1. 1922
 - 2. 1901
 - 3. 1915
 - 4. 1908

Question Type : MCQ

Question ID : 264330137984

Option 1 ID : 264330540543

Option 2 ID : 264330540546

Option 3 ID : 264330540544

Option 4 ID : 264330540545

Status : Answered

Chosen Option : 1

Q.2 किस देश ने 2022 में विश्व एथलेटिक्स चैंपियनशिप (18वीं) की मेजबानी की?

- Ans
- 1. संयुक्त राज्य अमेरिका
 - 2. जापान
 - 3. कोलंबिया
 - 4. कतर

Question Type : MCQ

Question ID : 264330137967

Option 1 ID : 264330540477

Option 2 ID : 264330540476

Option 3 ID : 264330540478

Option 4 ID : 264330540475

Status : Answered

Chosen Option : 1

Q.3 निम्नलिखित में से कौन-से पुष्पी और बीज धारण करने वाले पौधे अर्थात फैनरोगैम (पुष्पोद्भिद) हैं?

- Ans
- 1. ब्रायोफ़ाइटा
 - 2. टेरीडोफ़ाइटा
 - 3. जिम्नोस्पर्म
 - 4. थैलोफ़ाइटा

Question Type : MCQ

Question ID : 264330137951

Option 1 ID : 264330540412

Option 2 ID : 264330540414

Option 3 ID : 264330540413

Option 4 ID : 264330540411

Status : Answered

Chosen Option : 3

Q.4 भारत किस देश के साथ सबसे लंबी सीमा साझा करता है?

- Ans
- 1. बांग्लादेश
 - 2. पाकिस्तान
 - 3. चीन
 - 4. नेपाल

Question Type : MCQ

Question ID : 264330134043

Option 1 ID : 264330525197

Option 2 ID : 264330525195

Option 3 ID : 264330525198

Option 4 ID : 264330525196

Status : Answered

Chosen Option : 1

Q.5 जमी हुई गैसों, चट्टान और धूल के ब्रह्मांडीय हिमगोले (Cosmic snowballs), जो सूर्य की परिक्रमा करते हैं, _____ कहलाते हैं।

- Ans
- 1. उल्का (Meteors)
 - 2. तारा (Star)
 - 3. उल्कापिंड (Meteorites)
 - 4. धूमकेतु (Comets)

Question Type : MCQ

Question ID : 264330137952

Option 1 ID : 264330540417

Option 2 ID : 264330540416

Option 3 ID : 264330540415

Option 4 ID : 264330540418

Status : Answered

Chosen Option : 3

Q.6 भारत में, जनगणना अधिनियम _____ के प्रावधानों के तहत जनगणना की जाती है।

- Ans
- 1. 1952
 - 2. 1955
 - 3. 1948
 - 4. 1950

Question Type : MCQ

Question ID : 264330138232

Option 1 ID : 264330541537

Option 2 ID : 264330541538

Option 3 ID : 264330541536

Option 4 ID : 264330541535

Status : Answered

Chosen Option : 4

Q.7 निम्नलिखित में से कौन-सा अनुष्ठान भारत के त्रिपुरा में पृथ्वी की सफाई के साथ-साथ चौदह देवताओं की पूजा करने से संबंधित है?

- Ans
- 1. खार्ची पूजा
 - 2. बानी (Bani)
 - 3. दूस्
 - 4. दुर्गा पूजा

Question Type : MCQ

Question ID : 264330135487

Option 1 ID : 264330530858

Option 2 ID : 264330530856

Option 3 ID : 264330530857

Option 4 ID : 264330530855

Status : Answered

Chosen Option : 1

Q.8 निम्नलिखित में से कौन-सा विटामिन देखने की क्षमता में एक अहम भूमिका निभाता है?

- Ans
- 1. D
 - 2. A
 - 3. C
 - 4. B1

Question Type : MCQ

Question ID : 264330137042

Option 1 ID : 264330536814

Option 2 ID : 264330536811

Option 3 ID : 264330536813

Option 4 ID : 264330536812

Status : Answered

Chosen Option : 2

Q.9 कपास उगाने के लिए कितने पाला रहित दिनों की आवश्यकता होती है?

- Ans
- 1. 140
 - 2. 250
 - 3. 210
 - 4. 160

Question Type : MCQ
Question ID : 264330137028
Option 1 ID : 264330536755
Option 2 ID : 264330536757
Option 3 ID : 264330536756
Option 4 ID : 264330536758
Status : Answered
Chosen Option : 3

Q.10 'द व्हाइट टाइगर (The White Tiger)' नामक पुस्तक के लेखक कौन हैं?

- Ans
- 1. खुशवंत सिंह
 - 2. मुल्क राज आनंद
 - 3. रविंदर सिंह
 - 4. अरविंद अडिगा

Question Type : MCQ
Question ID : 264330137016
Option 1 ID : 264330536709
Option 2 ID : 264330536710
Option 3 ID : 264330536707
Option 4 ID : 264330536708
Status : Answered
Chosen Option : 4

Q.11 अक्टूबर 2022 तक, प्रधानमंत्री नरेंद्र मोदी _____ प्रधानमंत्री किसान समृद्धि केंद्रों का उद्घाटन कर चुके हैं।

- Ans
- 1. 500
 - 2. 300
 - 3. 600
 - 4. 400

Question Type : MCQ
Question ID : 264330137036
Option 1 ID : 264330536788
Option 2 ID : 264330536790
Option 3 ID : 264330536787
Option 4 ID : 264330536789
Status : Not Answered
Chosen Option : --

Q.12 बहुपरमाणुक धनायनों के सामान्य नाम प्रायः प्रत्यय _____ के साथ समाप्त होते हैं।

- Ans
- 1. आइड (-ide)
 - 2. अस (-ous)
 - 3. ओनियम (-onium)
 - 4. इक (-ic)

Question Type : MCQ
Question ID : 264330137949
Option 1 ID : 264330540405
Option 2 ID : 264330540404
Option 3 ID : 264330540403
Option 4 ID : 264330540406
Status : Not Answered
Chosen Option : --

Q.13 पंडित रवि शंकर को वर्ष 1999 में भारत के सर्वोच्च नागरिक सम्मान, भारतरत्न से सम्मानित किया गया था। वह निम्नलिखित में से कौन-से वाद्ययंत्र के वादक हैं?

- Ans
- 1. तबला
 - 2. शहनाई
 - 3. बांसुरी
 - 4. सितार

Question Type : MCQ
Question ID : 264330137054
Option 1 ID : 264330536860
Option 2 ID : 264330536861
Option 3 ID : 264330536862
Option 4 ID : 264330536859
Status : Answered
Chosen Option : 4

Q.14 भारतीय संविधान में एकल नागरिकता की विशेषता _____ के संविधान से ली गई थी।

- Ans
- 1. ऑस्ट्रेलिया
 - 2. संयुक्त राज्य अमेरिका
 - 3. कनाडा
 - 4. ब्रिटेन

Question Type : MCQ
Question ID : 264330137056
Option 1 ID : 264330536870
Option 2 ID : 264330536868
Option 3 ID : 264330536869
Option 4 ID : 264330536867
Status : Answered
Chosen Option : 4

Q.15 1857 के विद्रोह के बाद किस मुगल शासक का अंग्रेजों ने तख्ता पलट कर उसे बर्मा में निर्वासन के लिए भेज दिया?

- Ans
- 1. बहादुर शाह प्रथम
 - 2. शाहजहाँ
 - 3. बहादुर शाह द्वितीय
 - 4. आलमगीर द्वितीय

Question Type : MCQ

Question ID : 264330137958

Option 1 ID : 264330540440

Option 2 ID : 264330540439

Option 3 ID : 264330540442

Option 4 ID : 264330540441

Status : Answered

Chosen Option : 3

Q.16 निम्नलिखित में से कौन-सा नृत्य, युद्ध के हिंदू देवता, मुरुगन की अनुष्ठानिक पूजा के दौरान भक्तों द्वारा किया जाने वाला एक नृत्य है?

- Ans
- 1. कावड़ी अट्टम (Kavadiattam)
 - 2. मयिलाट्टम (Mayilattam)
 - 3. यक्ष (Yaksha)
 - 4. कुम्मी (Kummi)

Question Type : MCQ

Question ID : 264330137038

Option 1 ID : 264330536795

Option 2 ID : 264330536796

Option 3 ID : 264330536798

Option 4 ID : 264330536797

Status : Answered

Chosen Option : 1

Q.17 पाँचवें खेलो इंडिया यूथ गेम्स 2022 का आयोजन 2023 में _____ राज्य में किया गया ।

- Ans
- 1. मध्यप्रदेश
 - 2. उत्तरप्रदेश
 - 3. पश्चिम बंगाल
 - 4. केरल

Question Type : MCQ

Question ID : 264330137058

Option 1 ID : 264330536875

Option 2 ID : 264330536876

Option 3 ID : 264330536877

Option 4 ID : 264330536878

Status : Answered

Chosen Option : 1

Q.18 अशोक के शिलालेखों में वर्णित जानकारी के अनुसार मौर्य साम्राज्य में कितने प्रमुख राजनीतिक केंद्र थे?

- Ans
- 1. चार
 - 2. पाँच
 - 3. छः
 - 4. तीन

Question Type : MCQ

Question ID : 264330135497

Option 1 ID : 264330530895

Option 2 ID : 264330530896

Option 3 ID : 264330530897

Option 4 ID : 264330530898

Status : Answered

Chosen Option : 2

Q.19 परिवारों द्वारा प्राप्त राष्ट्रीय आय को _____ कहते हैं।

- Ans
- 1. पेशेवर आय
 - 2. व्यक्तिगत आय
 - 3. घरेलू आय
 - 4. प्रयोज्य आय

Question Type : MCQ

Question ID : 264330137021

Option 1 ID : 264330536729

Option 2 ID : 264330536728

Option 3 ID : 264330536730

Option 4 ID : 264330536727

Status : Not Answered

Chosen Option : --

Q.20 निम्नलिखित में से किसे दुनियाभर में भरतनाट्यम की साम्राज्ञी के रूप में जाना जाता है?

- Ans
- 1. शोभना नारायण
 - 2. कलामंडलम कल्याणिकुट्टी अम्मा
 - 3. मल्लिका साराभाई
 - 4. तंजौर बालासरस्वती

Question Type : MCQ

Question ID : 264330137018

Option 1 ID : 264330536715

Option 2 ID : 264330536717

Option 3 ID : 264330536718

Option 4 ID : 264330536716

Status : Answered

Chosen Option : 4

Q.21 किशोर न्याय (बच्चों की देखभाल एवं संरक्षण) संशोधन विधेयक, 2021 किशोर न्याय (बच्चों की देखभाल एवं संरक्षण) अधिनियम, _____ में संशोधन करना चाहता है।

- Ans
- 1. 2013
 - 2. 2016
 - 3. 2015
 - 4. 2014

Question Type : MCQ
Question ID : 264330137970
Option 1 ID : 264330540487
Option 2 ID : 264330540490
Option 3 ID : 264330540489
Option 4 ID : 264330540488
Status : Answered
Chosen Option : 1

Q.22 निम्नलिखित में से कौन-सी नदी बंगाल की खाड़ी में नहीं गिरती है?

- Ans
- 1. ताप्ती
 - 2. यमुना
 - 3. महानदी
 - 4. कृष्णा

Question Type : MCQ
Question ID : 264330137046
Option 1 ID : 264330536830
Option 2 ID : 264330536829
Option 3 ID : 264330536828
Option 4 ID : 264330536827
Status : Answered
Chosen Option : 1

Q.23 निम्नलिखित में से कौन-सा प्रसिद्ध मंदिर असम में स्थित है?

- Ans
- 1. मुंडेश्वरी मंदिर (Mundeshwari Temple)
 - 2. शोर मंदिर (Shore Temple)
 - 3. कामाख्या मंदिर (Kamakhya Temple)
 - 4. सोमनाथ मंदिर (Somnath Temple)

Question Type : MCQ
Question ID : 264330137973
Option 1 ID : 264330540500
Option 2 ID : 264330540499
Option 3 ID : 264330540502
Option 4 ID : 264330540501
Status : Answered
Chosen Option : 3

Q.24 भारत के राष्ट्रपति द्वारा अधिकतम _____ सदस्यों को राज्यसभा का सदस्य बनने के लिए मनोनीत किया जा सकता है।

- Ans 1. 12
 2. 10
 3. 18
 4. 25

Question Type : MCQ

Question ID : 264330137057

Option 1 ID : 264330536872

Option 2 ID : 264330536871

Option 3 ID : 264330536873

Option 4 ID : 264330536874

Status : Answered

Chosen Option : 1

Q.25 निम्नलिखित में से किस स्वतंत्रता सेनानी ने प्रसिद्ध नारा "तुम मुझे खून दो, मैं तुम्हें आज़ादी दूंगा!" दिया था?

- Ans 1. सुभाषचंद्र बोस
 2. लाला लाजपत राय
 3. बाल गंगाधर तिलक
 4. सरदार वल्लभ भाई पटेल

Question Type : MCQ

Question ID : 264330135500

Option 1 ID : 264330530907

Option 2 ID : 264330530910

Option 3 ID : 264330530909

Option 4 ID : 264330530908

Status : Answered

Chosen Option : 1

Section : English Language and Comprehension

Q.1 Select the most appropriate antonym of the given word.

Lethargy

- Ans 1. Shield
 2. Refusal
 3. Existence
 4. Attention

Question Type : MCQ

Question ID : 264330136527

Option 1 ID : 264330534850

Option 2 ID : 264330534849

Option 3 ID : 264330534847

Option 4 ID : 264330534848

Status : Answered

Chosen Option : 4

Q.2 Select the appropriate antonym for the underlined word.

The beauty of our landscape is important.

- Ans**
- 1. nobility
 - 2. blemish
 - 3. aesthetics
 - 4. glamour

Question Type : **MCQ**
Question ID : **264330135327**
Option 1 ID : **264330530217**
Option 2 ID : **264330530218**
Option 3 ID : **264330530215**
Option 4 ID : **264330530216**
Status : **Answered**
Chosen Option : **2**

Q.3 Select the most appropriate option to fill in the blank.

Strength training is useful as it avoids large increases in breathing rate and _____ muscle strength.

- Ans**
- 1. degrades
 - 2. regresses
 - 3. distributes
 - 4. improves

Question Type : **MCQ**
Question ID : **264330135333**
Option 1 ID : **264330530240**
Option 2 ID : **264330530242**
Option 3 ID : **264330530241**
Option 4 ID : **264330530239**
Status : **Answered**
Chosen Option : **4**

Q.4 Identify the segment that contains a grammatical error. If there is no error, select 'No error'.

In another words, most of us / are made by our elders or by our / peers, but leaders are self-directed.

- Ans**
- 1. peers, but leaders are self-directed.
 - 2. No error
 - 3. are made by our elders or by our
 - 4. In another words, most of us

Question Type : **MCQ**
Question ID : **264330136587**
Option 1 ID : **264330535081**
Option 2 ID : **264330535082**
Option 3 ID : **264330535080**
Option 4 ID : **264330535079**
Status : **Answered**
Chosen Option : **4**

Q.5 Find the part of the given sentence that has an error in it. If there is no error, choose 'No error'.

Producing a different component was as simple such launching a new computer program.

- Ans**
- 1. Producing a different component was
 - 2. as simple such launching
 - 3. a new computer program.
 - 4. No error

Question Type : **MCQ**
Question ID : **264330135310**
Option 1 ID : **264330530151**
Option 2 ID : **264330530152**
Option 3 ID : **264330530153**
Option 4 ID : **264330530154**
Status : **Answered**
Chosen Option : **2**

Q.6 A sentence has been given with a blank to be filled with an appropriate option. Choose the correct alternative.

He was _____ in a pool of blood near a neighbour's house.

- Ans**
- 1. lying
 - 2. lain
 - 3. lied
 - 4. laying

Question Type : **MCQ**
Question ID : **264330135289**
Option 1 ID : **264330530073**
Option 2 ID : **264330530072**
Option 3 ID : **264330530071**
Option 4 ID : **264330530074**
Status : **Answered**
Chosen Option : **4**

Q.7 Select the most appropriate option to substitute the bracketed segment in the given sentence. If there is no need to substitute it, select 'no substitution required'.

This commodity in clay-coloured material (can't be used neither as a table mat nor as a table napkin).

- Ans**
- 1. can't be used neither as a table mat but as a table napkin
 - 2. No substitution required
 - 3. can't be used neither as a table mat or as a table napkin
 - 4. can't be used either as a table mat or as a table napkin

Question Type : **MCQ**
Question ID : **264330135772**
Option 1 ID : **264330531967**
Option 2 ID : **264330531970**
Option 3 ID : **264330531968**
Option 4 ID : **264330531969**
Status : **Answered**
Chosen Option : **2**

Q.8 In the following question, out of the given four alternatives, select the alternative which best expresses the meaning of the Idiom/Phrase.

With a pinch of salt

- Ans**
- 1. Taken forcefully
 - 2. Nefariously
 - 3. Doubt the truth or value of something
 - 4. With due respect

Question Type : **MCQ**
Question ID : **264330135329**
Option 1 ID : **264330530226**
Option 2 ID : **264330530225**
Option 3 ID : **264330530223**
Option 4 ID : **264330530224**
Status : **Answered**
Chosen Option : **3**

Q.9 Select the appropriate synonym for the underlined word.

A sudden gust of wind hits the window.

- Ans**
- 1. cramp
 - 2. feel
 - 3. blow
 - 4. pump

Question Type : **MCQ**
Question ID : **264330135324**
Option 1 ID : **264330530206**
Option 2 ID : **264330530204**
Option 3 ID : **264330530203**
Option 4 ID : **264330530205**
Status : **Answered**
Chosen Option : **3**

Q.10 A sentence has been given with a blank to be filled with an appropriate option. Choose the correct alternative.

You have the power _____ the perspective of this nation.

- Ans**
- 1. changed
 - 2. changing
 - 3. change
 - 4. to change

Question Type : **MCQ**
Question ID : **264330135314**
Option 1 ID : **264330530167**
Option 2 ID : **264330530169**
Option 3 ID : **264330530168**
Option 4 ID : **264330530170**
Status : **Answered**
Chosen Option : **4**

Q.11 Select the word segment that substitutes (replaces) the bracketed word segment correctly and completes the sentence meaningfully. Select the option 'no correction required' if the sentence is correct as given.

They said that they (were understandings) his theory very well.

- Ans**
- 1. understanding
 - 2. No correction required
 - 3. have understand
 - 4. understood

Question Type : **MCQ**
Question ID : **264330136590**
Option 1 ID : **264330535092**
Option 2 ID : **264330535094**
Option 3 ID : **264330535093**
Option 4 ID : **264330535091**
Status : **Answered**
Chosen Option : **4**

Q.12 Select the most appropriate option to fill in the blank.

He gave the horse enough room to _____ away from the wagon.

- Ans**
- 1. stalk
 - 2. walk
 - 3. woke
 - 4. watch

Question Type : **MCQ**
Question ID : **264330135280**
Option 1 ID : **264330530037**
Option 2 ID : **264330530038**
Option 3 ID : **264330530036**
Option 4 ID : **264330530035**
Status : **Answered**
Chosen Option : **2**

Q.13 Choose the incorrectly spelt word.

- Ans**
- 1. Condision
 - 2. Busy
 - 3. Sponge
 - 4. Plane

Question Type : **MCQ**
Question ID : **264330135330**
Option 1 ID : **264330530230**
Option 2 ID : **264330530228**
Option 3 ID : **264330530227**
Option 4 ID : **264330530229**
Status : **Answered**
Chosen Option : **1**

Q.14 Select the most appropriate meaning of the given idiom.

To sing a different tune

- Ans
- 1. To buy or sell something
 - 2. To be able to handle a jolt
 - 3. To brag about something
 - 4. To change the way one talks about something

Question Type : **MCQ**
Question ID : **264330136404**
Option 1 ID : **264330534380**
Option 2 ID : **264330534382**
Option 3 ID : **264330534381**
Option 4 ID : **264330534379**
Status : **Answered**
Chosen Option : **4**

Q.15 Find the part of the given sentence that has an error in it. If there is no error, choose 'No error'.

People need to made changes in agriculture and land use.

- Ans
- 1. People need to
 - 2. agriculture and land use.
 - 3. made changes in
 - 4. No error

Question Type : **MCQ**
Question ID : **264330134824**
Option 1 ID : **264330528235**
Option 2 ID : **264330528237**
Option 3 ID : **264330528236**
Option 4 ID : **264330528238**
Status : **Answered**
Chosen Option : **3**

Q.16 Choose the sentence with no spelling error.

- Ans
- 1. Near death experiences are still near death.
 - 2. Near death expereinces are stil near death.
 - 3. Near death experiences are stil near deaath.
 - 4. Near death expriences are still near death.

Question Type : **MCQ**
Question ID : **264330135279**
Option 1 ID : **264330530032**
Option 2 ID : **264330530031**
Option 3 ID : **264330530034**
Option 4 ID : **264330530033**
Status : **Answered**
Chosen Option : **1**

Q.17 Improve the underlined part of the sentence. Choose 'No improvement' as an answer if the sentence is grammatically correct.
At age 25, she taken her vows and became a nun.

- Ans
- 1. take her vowed
 - 2. No improvement
 - 3. took her vows
 - 4. take her vows

Question Type : MCQ
Question ID : 264330134532
Option 1 ID : 264330527089
Option 2 ID : 264330527090
Option 3 ID : 264330527087
Option 4 ID : 264330527088
Status : Answered
Chosen Option : 3

Q.18 Choose the word that means the same as the given word.

Easiness

- Ans
- 1. Immunity
 - 2. Indomitability
 - 3. Gullibility
 - 4. Fraternity

Question Type : MCQ
Question ID : 264330135299
Option 1 ID : 264330530109
Option 2 ID : 264330530107
Option 3 ID : 264330530110
Option 4 ID : 264330530108
Status : Answered
Chosen Option : 3

Q.19 Choose the word that can substitute the given group of words.

A case in which the blade of a sword is kept

- Ans
- 1. Pantry
 - 2. Dyke
 - 3. Infirmary
 - 4. Sheath

Question Type : MCQ
Question ID : 264330135323
Option 1 ID : 264330530202
Option 2 ID : 264330530201
Option 3 ID : 264330530199
Option 4 ID : 264330530200
Status : Answered
Chosen Option : 4

Q.20 Select the most appropriate word for the given group of words.

Government by two rulers or authorities

- Ans**
- 1. Diarchy
 - 2. Anarchy
 - 3. Monarchy
 - 4. Bureaucracy

Question Type : **MCQ**
Question ID : **264330136398**
Option 1 ID : **264330534357**
Option 2 ID : **264330534355**
Option 3 ID : **264330534356**
Option 4 ID : **264330534358**
Status : **Answered**
Chosen Option : **1**

Comprehension:

In the following passage some words have been deleted. Fill in the blanks with the help of the alternatives given. Select the most appropriate option for each number.

By contrast, depression is a (1) _____, long-term downturn in economic activity in one or more (2) _____. A depression is a more (3) _____ downturn than a recession, which is seen by some economists as part of the modern business cycle. The latter refers to (4) _____ that occur around a long-term growth trend, and typically involve shifts over time between (5) _____ of relatively rapid economic growth (an expansion or boom), and periods of relative stagnation or decline (a contraction or recession).

SubQuestion No : 21

Q.21 Select the most appropriate option to fill in blank number 1.

- Ans**
- 1. abstained
 - 2. stained
 - 3. sustained
 - 4. curtained

Question Type : **MCQ**
Question ID : **264330136518**
Option 1 ID : **264330534812**
Option 2 ID : **264330534811**
Option 3 ID : **264330534814**
Option 4 ID : **264330534813**
Status : **Answered**
Chosen Option : **3**

Comprehension:

In the following passage some words have been deleted. Fill in the blanks with the help of the alternatives given. Select the most appropriate option for each number.

By contrast, depression is a (1) _____, long-term downturn in economic activity in one or more (2) _____. A depression is a more (3) _____ downturn than a recession, which is seen by some economists as part of the modern business cycle. The latter refers to (4) _____ that occur around a long-term growth trend, and typically involve shifts over time between (5) _____ of relatively rapid economic growth (an expansion or boom), and periods of relative stagnation or decline (a contraction or recession).

SubQuestion No : 22

Q.22 Select the most appropriate option to fill in blank number 2.

- Ans
- 1. services
 - 2. autonomies
 - 3. astronomies
 - 4. economies

Question Type : **MCQ**
Question ID : **264330136519**
Option 1 ID : **264330534815**
Option 2 ID : **264330534818**
Option 3 ID : **264330534817**
Option 4 ID : **264330534816**
Status : **Not Answered**
Chosen Option : --

Comprehension:

In the following passage some words have been deleted. Fill in the blanks with the help of the alternatives given. Select the most appropriate option for each number.

By contrast, depression is a (1) _____, long-term downturn in economic activity in one or more (2) _____. A depression is a more (3) _____ downturn than a recession, which is seen by some economists as part of the modern business cycle. The latter refers to (4) _____ that occur around a long-term growth trend, and typically involve shifts over time between (5) _____ of relatively rapid economic growth (an expansion or boom), and periods of relative stagnation or decline (a contraction or recession).

SubQuestion No : 23

Q.23 Select the most appropriate option to fill in blank number 3.

- Ans
- 1. feral
 - 2. severe
 - 3. tamed
 - 4. simple

Question Type : **MCQ**
Question ID : **264330136520**
Option 1 ID : **264330534820**
Option 2 ID : **264330534822**
Option 3 ID : **264330534819**
Option 4 ID : **264330534821**
Status : **Answered**
Chosen Option : **2**

Comprehension:

In the following passage some words have been deleted. Fill in the blanks with the help of the alternatives given. Select the most appropriate option for each number.

By contrast, depression is a (1) _____, long-term downturn in economic activity in one or more (2) _____. A depression is a more (3) _____ downturn than a recession, which is seen by some economists as part of the modern business cycle. The latter refers to (4) _____ that occur around a long-term growth trend, and typically involve shifts over time between (5) _____ of relatively rapid economic growth (an expansion or boom), and periods of relative stagnation or decline (a contraction or recession).

SubQuestion No : 24

Q.24 Select the most appropriate option to fill in blank number 4.

- Ans**
- 1. fluctuations
 - 2. sustainability
 - 3. stability
 - 4. firmness

Question Type : **MCQ**

Question ID : **264330136521**

Option 1 ID : **264330534826**

Option 2 ID : **264330534824**

Option 3 ID : **264330534825**

Option 4 ID : **264330534823**

Status : **Answered**

Chosen Option : **1**

Comprehension:

In the following passage some words have been deleted. Fill in the blanks with the help of the alternatives given. Select the most appropriate option for each number.

By contrast, depression is a (1) _____, long-term downturn in economic activity in one or more (2) _____. A depression is a more (3) _____ downturn than a recession, which is seen by some economists as part of the modern business cycle. The latter refers to (4) _____ that occur around a long-term growth trend, and typically involve shifts over time between (5) _____ of relatively rapid economic growth (an expansion or boom), and periods of relative stagnation or decline (a contraction or recession).

SubQuestion No : 25

Q.25 Select the most appropriate option to fill in blank number 5.

- Ans**
- 1. periods
 - 2. prods
 - 3. perpetually
 - 4. perpetuity

Question Type : **MCQ**

Question ID : **264330136522**

Option 1 ID : **264330534827**

Option 2 ID : **264330534830**

Option 3 ID : **264330534829**

Option 4 ID : **264330534828**

Status : **Answered**

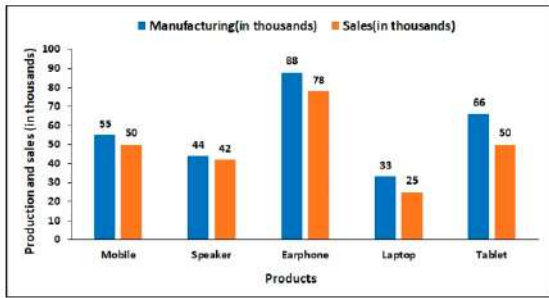
Chosen Option : **1**

Multi Tasking Non Technical Staff and Havaladar CBIC and CBN Examination 2022

Roll Number	KD Job Updates
Candidate Name	KD Job Updates
Venue Name	Jaipur Engineering College
Exam Date	16/05/2023
Exam Time	12:00 PM - 2:00 PM
Subject	MTS Non Tech Havaladar CBIC and CBN Examination 2022

Section : Numerical and Mathematical Ability

Q.1 निम्न दंड आलेख में विभिन्न उत्पादों के निर्माण और बिक्री को दर्शाया गया है। जो लैपटॉप नहीं बिके उनकी संख्या ज्ञात कीजिए।



Manufacturing(in thousands)= उत्पादन(हजारों में), Sales(in thousands) = बिक्री (हजारों में)

Production and sales(in thousands)= उत्पादन और बिक्री(हजारों में), Products = उत्पाद

Mobile = मोबाइल, Speaker = स्पीकर, Earphone = ईयरफोन, Laptop = लैपटॉप, Tablet = टेबलेट

- Ans
- 1. 4000
 - 2. 5000
 - 3. 9000
 - 4. 8000

Question Type : MCQ

Question ID : 264330133772

Option 1 ID : 264330524113

Option 2 ID : 264330524112

Option 3 ID : 264330524114

Option 4 ID : 264330524111

Status : Answered

Chosen Option : 4

Q.2 64 और 144 का माध्य समानुपाती ज्ञात कीजिए।

- Ans
- 1. 108
 - 2. 96
 - 3. 12
 - 4. 8

Question Type : MCQ
Question ID : 264330133764
Option 1 ID : 264330524082
Option 2 ID : 264330524081
Option 3 ID : 264330524079
Option 4 ID : 264330524080
Status : Answered
Chosen Option : 2

Q.3 $6^2 + 4^2 - 20$ of $2 + 40$ का मान ज्ञात कीजिए।

- Ans
- 1. 54
 - 2. 56
 - 3. 50
 - 4. 52

Question Type : MCQ
Question ID : 264330133756
Option 1 ID : 264330524048
Option 2 ID : 264330524050
Option 3 ID : 264330524049
Option 4 ID : 264330524047
Status : Answered
Chosen Option : 4

Q.4 अजिंकट का वार्षिक वेतन Rs.1000000 से बढ़कर Rs.1400000 हो गया। वृद्धि प्रतिशत क्या है?

- Ans
- 1. 14%
 - 2. 40%
 - 3. 4%
 - 4. 20%

Question Type : MCQ
Question ID : 264330133585
Option 1 ID : 264330523366
Option 2 ID : 264330523364
Option 3 ID : 264330523363
Option 4 ID : 264330523365
Status : Answered
Chosen Option : 2

Q.5 A, B और C मिलकर किसी कार्य को 5 दिनों में पूरा कर सकते हैं। A और B मिलकर उसी कार्य को 6 दिनों में पूरा कर सकते हैं। C अकेले उसी कार्य को कितने दिनों में पूरा कर सकता है?

- Ans
- 1. 60 दिन
 - 2. 30 दिन
 - 3. 15 दिन
 - 4. 20 दिन

Question Type : MCQ

Question ID : 264330137130

Option 1 ID : 264330537166

Option 2 ID : 264330537165

Option 3 ID : 264330537164

Option 4 ID : 264330537163

Status : Answered

Chosen Option : 2

Q.6 एक वृत्त के क्षेत्रफल का नौ गुना, एक वर्ग के क्षेत्रफल के तीन गुना के बराबर है। वृत्त के व्यास और वर्ग के विकर्ण का अनुपात क्या है?

- Ans
- 1. $2:\sqrt{3\pi}$
 - 2. $\sqrt{5}:\sqrt{7\pi}$
 - 3. $\sqrt{2}:\sqrt{3\pi}$
 - 4. $2:3\pi$

Question Type : MCQ

Question ID : 264330139010

Option 1 ID : 264330544650

Option 2 ID : 264330544649

Option 3 ID : 264330544647

Option 4 ID : 264330544648

Status : Answered

Chosen Option : 1

Q.7 यदि किसी घनाभ की लंबाई और चौड़ाई दोनों में 12 प्रतिशत की वृद्धि कर दी जाए, तो उसकी ऊँचाई में कितने प्रतिशत की कमी की जानी चाहिए ताकि घनाभ का आयतन वही रहे?

- Ans
- 1. 24.72 प्रतिशत
 - 2. 28.44 प्रतिशत
 - 3. 14.56 प्रतिशत
 - 4. 20.28 प्रतिशत

Question Type : MCQ

Question ID : 264330137145

Option 1 ID : 264330537224

Option 2 ID : 264330537223

Option 3 ID : 264330537225

Option 4 ID : 264330537226

Status : Answered

Chosen Option : 4

Q.8 35 वस्तुओं को बेचने पर, एक दुकानदार 15 वस्तुओं के विक्रय मूल्य के बराबर लाभ अर्जित करता है। उसका लाभ प्रतिशत ज्ञात कीजिए।

- Ans
- 1. 88%
 - 2. 75%
 - 3. 60%
 - 4. 40%

Question Type : MCQ
Question ID : 264330135137
Option 1 ID : 264330529485
Option 2 ID : 264330529483
Option 3 ID : 264330529484
Option 4 ID : 264330529486
Status : Answered
Chosen Option : 2

Q.9 एक आदमी अपनी कार को 2 घंटे तक 50 km/hr की चाल से चलाता है और फिर यात्रा के अंत तक चाल को कम करके 40 km/hr की चाल से चलाता है। यदि यात्रा के दौरान उसकी औसत चाल 44 km/hr थी, तो उसने कितने समय तक अपनी कार को 40 km/hr की चाल से चलाया?

- Ans
- 1. 1 घंटे
 - 2. 2 घंटे
 - 3. 3 घंटे
 - 4. 4 घंटे

Question Type : MCQ
Question ID : 264330138040
Option 1 ID : 264330540767
Option 2 ID : 264330540768
Option 3 ID : 264330540769
Option 4 ID : 264330540770
Status : Answered
Chosen Option : 3

Q.10 $49 \times 64 \div 56 + 45 \div 5 + 25 \times 5 + 75 \div 3 + 8 \times 3$ का मान क्या है?

- Ans
- 1. 250
 - 2. 225
 - 3. 214
 - 4. 239

Question Type : MCQ
Question ID : 264330137149
Option 1 ID : 264330537242
Option 2 ID : 264330537240
Option 3 ID : 264330537239
Option 4 ID : 264330537241
Status : Answered
Chosen Option : 4

Q.11 नीचे दी गई तालिका में पाँच अलग-अलग वस्तुओं के अंकित मूल्य और छूट प्रतिशत को दर्शाया गया है।

वस्तु	अंकित मूल्य	छूट प्रतिशत
P	300	20 प्रतिशत
Q	600	25 प्रतिशत
R	400	16 प्रतिशत
S	700	22 प्रतिशत
T	800	30 प्रतिशत

$$\text{Selling Price} = \text{Marked Price} - \left(\frac{\text{Marked Price} \times \text{Discount}}{100} \right)$$

विक्रय मूल्य (selling price) = अंकित मूल्य (marked price) - (अंकित मूल्य (marked price) x छूट (discount) / 100)

J1 = वस्तु P और R का कुल विक्रय मूल्य।

J2 = Q और T का कुल विक्रय मूल्य।

(J2 - J1) का मान क्या है?

- Ans
- 1. 532
 - 2. 434
 - 3. 530
 - 4. 448

Question Type : MCQ

Question ID : 264330137150

Option 1 ID : 264330537246

Option 2 ID : 264330537245

Option 3 ID : 264330537243

Option 4 ID : 264330537244

Status : Answered

Chosen Option : 2

Q.12 21 m व्यास वाले एक अर्धगोलाकार कटोरे में कितने लीटर पानी आ सकता है? ($1\text{m}^3 = 1000$ लीटर)

- Ans
- 1. 2100000 लीटर
 - 2. 2322500 लीटर
 - 3. 2425500 लीटर
 - 4. 2250500 लीटर

Question Type : MCQ

Question ID : 264330135128

Option 1 ID : 264330529447

Option 2 ID : 264330529450

Option 3 ID : 264330529449

Option 4 ID : 264330529448

Status : Answered

Chosen Option : 3

Q.13 A और B द्वारा एक निश्चित दूरी तय करने में लगने वाले समय का अनुपात 17:19 है। दोनों की चाल का क्रमशः अनुपात ज्ञात कीजिए।

- Ans
- 1. 15:19
 - 2. 11:15
 - 3. 17:15
 - 4. 19:17

Question Type : MCQ
Question ID : 264330133768
Option 1 ID : 264330524096
Option 2 ID : 264330524098
Option 3 ID : 264330524095
Option 4 ID : 264330524097
Status : Answered
Chosen Option : 4

Q.14 $\frac{39}{25} \div \frac{13}{5} + \frac{33}{5} \times \frac{4}{11}$ का मान क्या है?

- Ans
- 1. 5
 - 2. 15
 - 3. 3
 - 4. 12

Question Type : MCQ
Question ID : 264330137641
Option 1 ID : 264330539172
Option 2 ID : 264330539173
Option 3 ID : 264330539171
Option 4 ID : 264330539174
Status : Answered
Chosen Option : 3

Q.15 33% और 30% के क्रमागत बड़े किस एकल बड़े के बराबर हैं?

- Ans
- 1. 50.5%
 - 2. 45.9%
 - 3. 60.4%
 - 4. 53.1%

Question Type : MCQ
Question ID : 264330133763
Option 1 ID : 264330524075
Option 2 ID : 264330524076
Option 3 ID : 264330524078
Option 4 ID : 264330524077
Status : Answered
Chosen Option : 4

Q.16 55, 60 और 33 का चतुर्थ समानुपाती ज्ञात कीजिए।

- Ans
- 1. 28
 - 2. 30
 - 3. 36
 - 4. 24

Question Type : MCQ
Question ID : 264330133765
Option 1 ID : 264330524085
Option 2 ID : 264330524086
Option 3 ID : 264330524083
Option 4 ID : 264330524084
Status : Answered
Chosen Option : 3

Q.17 साधारण ब्याज दर पर 5 वर्षों में Rs. 21850 की धनराशि Rs. 28623.50 हो जाती है। दर प्रतिशत कितना है?

- Ans
- 1. 6.2% वार्षिक
 - 2. 7.2% वार्षिक
 - 3. 6.8% वार्षिक
 - 4. 4.8% वार्षिक

Question Type : MCQ
Question ID : 264330138736
Option 1 ID : 264330543553
Option 2 ID : 264330543554
Option 3 ID : 264330543552
Option 4 ID : 264330543551
Status : Answered
Chosen Option : 1

Q.18 चीनी की 4% मात्रा को बेचने के बाद, 6 kg चीनी बच जाती है। चीनी की कुल मात्रा ज्ञात कीजिए।

- Ans
- 1. 11.11 kg
 - 2. 7 kg
 - 3. 5.25 kg
 - 4. 6.25 kg

Question Type : MCQ
Question ID : 264330133762
Option 1 ID : 264330524073
Option 2 ID : 264330524074
Option 3 ID : 264330524071
Option 4 ID : 264330524072
Status : Answered
Chosen Option : 4

Q.19 Rs. 58 प्रति किलोग्राम मूल्य वाली चाय को, Rs. 64 प्रति किलोग्राम मूल्य वाली चाय के साथ किस अनुपात में मिलाया जाना चाहिए जिससे मिश्रण का मूल्य Rs. 60 प्रति किलोग्राम हो जाएगा?

- Ans
- 1. 3:2
 - 2. 2:1
 - 3. 1:2
 - 4. 2:3

Question Type : MCQ

Question ID : 264330138039

Option 1 ID : 264330540764

Option 2 ID : 264330540763

Option 3 ID : 264330540765

Option 4 ID : 264330540766

Status : Answered

Chosen Option : 2

Q.20 21 संख्याओं का औसत 60 है। यदि प्रत्येक संख्या में 20 की वृद्धि की जाती है, तो वह संख्या ज्ञात कीजिए जिसके द्वारा औसत में वृद्धि होती है।

- Ans
- 1. 12
 - 2. 18
 - 3. 15
 - 4. 20

Question Type : MCQ

Question ID : 264330133758

Option 1 ID : 264330524056

Option 2 ID : 264330524057

Option 3 ID : 264330524055

Option 4 ID : 264330524058

Status : Answered

Chosen Option : 4

Section : Reasoning Ability and Problem Solving

Q.1 Five students A, M, C, Y and G are sitting around a circular table facing outside the center not necessarily in the same order. M sits to the immediate left of A and to the immediate right of G. Y is not an immediate neighbour of A. Who sits second left of G?

- Ans
- 1. A
 - 2. C
 - 3. M
 - 4. Y

Question Type : MCQ

Question ID : 264330133472

Option 1 ID : 264330522919

Option 2 ID : 264330522920

Option 3 ID : 264330522921

Option 4 ID : 264330522922

Status : Answered

Chosen Option : 2

Q.2 एक निश्चित कूट भाषा में, 'CAUGHT' को 'EYWEJR' लिखा जाता है और 'ENGINE' को 'GLIGPC' लिखा जाता है। उस कूट भाषा में 'WORKER' को कैसे लिखा जाएगा?

- Ans
- 1. YMTKGP
 - 2. YMTIHP
 - 3. YMTIGP
 - 4. YMTJIP

Question Type : MCQ

Question ID : 264330137348

Option 1 ID : 264330538019

Option 2 ID : 264330538021

Option 3 ID : 264330538020

Option 4 ID : 264330538022

Status : Answered

Chosen Option : 3

Q.3 पाँच मित्रों पीयूष, निखिल, राहुल, सक्षम और तरुण के कद अलग-अलग हैं। तरुण केवल तीन अन्य मित्रों से लंबा है। राहुल सभी मित्रों में सबसे लंबा है। निखिल केवल एक मित्र से लंबा है। पीयूष से केवल दो मित्र लंबे हैं। सभी मित्रों में किसका कद सबसे कम है?

- Ans
- 1. निखिल
 - 2. पीयूष
 - 3. सक्षम
 - 4. तरुण

Question Type : MCQ

Question ID : 264330133474

Option 1 ID : 264330522928

Option 2 ID : 264330522927

Option 3 ID : 264330522930

Option 4 ID : 264330522929

Status : Answered

Chosen Option : 3

Q.4 दी गई श्रृंखला में निम्नलिखित में से कौन-सा अक्षर-समूह प्रश्न चिन्ह (?) के स्थान पर आएगा?
UX, YB, CF, GJ, ?

- Ans
- 1. LO
 - 2. KN
 - 3. KM
 - 4. LN

Question Type : MCQ

Question ID : 264330133466

Option 1 ID : 264330522898

Option 2 ID : 264330522895

Option 3 ID : 264330522896

Option 4 ID : 264330522897

Status : Answered

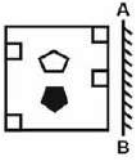
Chosen Option : 2

Q.5 दी गई श्रृंखला में निम्नलिखित में से कौन-सी संख्या प्रश्न चिन्ह (?) के स्थान पर आएगी?
5, 7, 11, 13, 17, 19, 23, 25, ?

- Ans
- 1. 42
 - 2. 39
 - 3. 56
 - 4. 29

Question Type : MCQ
Question ID : 264330133331
Option 1 ID : 264330522359
Option 2 ID : 264330522360
Option 3 ID : 264330522361
Option 4 ID : 264330522362
Status : Answered
Chosen Option : 4

Q.6 यदि रेखा AB पर एक दर्पण रखा जाए, तो दी गई विकल्प आकृतियों में से कौन-सी आकृति प्रश्न आकृति का सही प्रतिबिंब होगी?



Ans

- 1.
- 2.
- 3.
- 4.

Question Type : MCQ
Question ID : 264330137106
Option 1 ID : 264330537070
Option 2 ID : 264330537067
Option 3 ID : 264330537069
Option 4 ID : 264330537068
Status : Answered
Chosen Option : 3

Q.7 एक निश्चित कूट भाषा में, '3152' को 'FBJD' और '5476' को 'JHNL' लिखा जाता है। उस भाषा में '2231' को कैसे लिखा जाएगा?

- Ans
- 1. BDDF
 - 2. EFDB
 - 3. DDFB
 - 4. FBED

Question Type : MCQ
Question ID : 264330133389
Option 1 ID : 264330522589
Option 2 ID : 264330522587
Option 3 ID : 264330522588
Option 4 ID : 264330522590
Status : Answered
Chosen Option : 3

Q.8 एक निश्चित कूट भाषा में, 'CAGE' को '92' लिखा जाता है और 'BURN' को '53' लिखा जाता है। उस कूट भाषा में 'TORCH' को कैसे लिखा जाएगा?

- Ans
- 1. 65
 - 2. 71
 - 3. 98
 - 4. 82

Question Type : MCQ
Question ID : 264330137544
Option 1 ID : 264330538786
Option 2 ID : 264330538785
Option 3 ID : 264330538783
Option 4 ID : 264330538784
Status : Answered
Chosen Option : 2

Q.9 दी गई दो संख्याओं को आपस में बदलने पर, निम्नलिखित में से कौनसा समीकरण सही होगा?

7 और 4

I. $7 \times 8 + 4 - 9 \div 3 = 30$

II. $9 + 4 \times 8 \div 2 - 7 = 33$

- Ans
- 1. केवल I
 - 2. I और II दोनों
 - 3. केवल II
 - 4. न तो I और न ही II

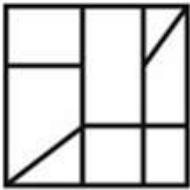
Question Type : MCQ
Question ID : 264330138599
Option 1 ID : 264330543003
Option 2 ID : 264330543005
Option 3 ID : 264330543004
Option 4 ID : 264330543006
Status : Answered
Chosen Option : 3

Q.10 उस विकल्प आकृति को चुनिए जिसमें दी गई आकृति निहित है। (घूर्णन की अनुमति नहीं है)

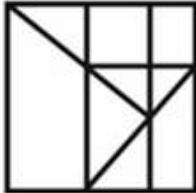


Ans

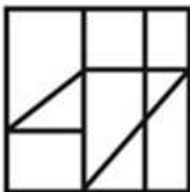
✗ 1.



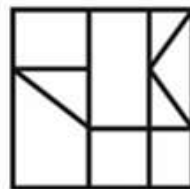
✗ 2.



✗ 3.



✓ 4.



Question Type : MCQ

Question ID : 264330137105

Option 1 ID : 264330537064

Option 2 ID : 264330537066

Option 3 ID : 264330537065

Option 4 ID : 264330537063

Status : Answered

Chosen Option : 4

Q.11 Select the option that is related to the third word in the same way as the second word is related to the first word.

Cataract : Eyes :: Psoriasis : ?

Ans

✓ 1. Skin

✗ 2. Leg

✗ 3. Hair

✗ 4. Ear

Question Type : MCQ

Question ID : 264330133467

Option 1 ID : 264330522902

Option 2 ID : 264330522900

Option 3 ID : 264330522901

Option 4 ID : 264330522899

Status : Answered

Chosen Option : 2

Q.12 दो कथन दिए गए हैं और उनके बाद दो निष्कर्ष I और II दिए गए हैं। कथनों को सत्य मानते हुए, चाहे वे सामान्यतः जात तथ्यों से अलग प्रतीत होते हों, निश्चय कीजिए कि कौन-सा निष्कर्ष तार्किक रूप से कथनों के अनुसार है।

कथन:

सभी ट्रॉली, टोकरियाँ हैं।

कुछ अटैची, ट्रॉली हैं।

निष्कर्ष:

I. सभी अटैची, टोकरियाँ हैं।

II. कुछ टोकरियाँ, अटैची हैं।

Ans

1. सिर्फ निष्कर्ष I कथनों के अनुसार है
2. सिर्फ निष्कर्ष II कथनों के अनुसार है
3. निष्कर्ष I और II दोनों कथनों के अनुसार हैं
4. निष्कर्ष I और II में से कोई भी कथनों के अनुसार नहीं है

Question Type : MCQ

Question ID : 264330133475

Option 1 ID : 264330522931

Option 2 ID : 264330522932

Option 3 ID : 264330522933

Option 4 ID : 264330522934

Status : Answered

Chosen Option : 2

Q.13 दो कथन दिए गए हैं और उनके बाद दो निष्कर्ष I और II दिए गए हैं। कथनों को सत्य मानते हुए, चाहे वे सामान्यतः जात तथ्यों से अलग प्रतीत होते हों, निश्चय कीजिए कि कौन-सा निष्कर्ष तार्किक रूप से कथनों के अनुसार है।

कथन:

केवल कुछ वयस्क, प्लंबर हैं।

केवल कुछ प्लंबर, टैक्सी चालक हैं।

निष्कर्ष:

I. कुछ वयस्क, टैक्सी चालक हैं।

II. सभी प्लंबर कभी भी टैक्सी चालक नहीं हो सकते।

Ans

1. निष्कर्ष I और II में से कोई भी कथनों के अनुसार नहीं है
2. सिर्फ निष्कर्ष I कथनों के अनुसार है
3. निष्कर्ष I और II दोनों कथनों के अनुसार हैं
4. सिर्फ निष्कर्ष II कथनों के अनुसार है

Question Type : MCQ

Question ID : 264330133476

Option 1 ID : 264330522938

Option 2 ID : 264330522935

Option 3 ID : 264330522937

Option 4 ID : 264330522936

Status : Answered

Chosen Option : 1

Q.14 नीचे दिए गए समीकरण में कौन-से गणितीय चिन्हों को आपस में बदला जाना चाहिए जिससे यह समीकरण गणितीय रूप से सही हो जाए?

$$45 - 6 + 108 \div 12 \times 14 = 5$$

- Ans
- 1. \div और $-$
 - 2. $+$ और $-$
 - 3. $+$ और \times
 - 4. \times और $-$

Question Type : MCQ

Question ID : 264330133481

Option 1 ID : 264330522956

Option 2 ID : 264330522958

Option 3 ID : 264330522955

Option 4 ID : 264330522957

Status : Answered

Chosen Option : 3

Q.15 उस समुच्चय को चुनिए जिसमें संख्याएँ ठीक उसी प्रकार संबंधित हैं जिस प्रकार निम्नलिखित समुच्चयों की संख्याएँ संबंधित हैं। (ध्यान दें: संख्याओं को उनके घटक अंकों में अलग-अलग किए बिना, पूर्ण संख्याओं पर संक्रियाएँ की जानी चाहिए। उदा. 13 - 13 पर संक्रियाएँ जैसे 13 को जोड़ना /घटाना /गुणा करना आदि किया जा सकता है। 13 को 1 और 3 में अलग-अलग करने की और फिर 1 और 3 पर गणितीय संक्रियाएँ करने की अनुमति नहीं है)

(7, 49, 343)

(8, 64, 512)

- Ans
- 1. (5, 25, 225)
 - 2. (6, 36, 206)
 - 3. (11, 121, 1221)
 - 4. (9, 81, 729)

Question Type : MCQ

Question ID : 264330133480

Option 1 ID : 264330522952

Option 2 ID : 264330522951

Option 3 ID : 264330522954

Option 4 ID : 264330522953

Status : Answered

Chosen Option : 4

Q.16 एक निश्चित कूट भाषा में, 'JACK' को 'LCEI' लिखा जाता है। उस कूट भाषा में 'FURO' को कैसे लिखा जाएगा?

- Ans
- 1. HMTW
 - 2. HTWM
 - 3. HTMW
 - 4. HWTM

Question Type : MCQ

Question ID : 264330135004

Option 1 ID : 264330528953

Option 2 ID : 264330528952

Option 3 ID : 264330528954

Option 4 ID : 264330528951

Status : Answered

Chosen Option : 4

Q.17 उस विकल्प को चुनिए जो तीसरे शब्द से ठीक उसी तरह संबंधित है जिस तरह दूसरा शब्द पहले शब्द से संबंधित है।
कसाई : माँस :: विमान-चालक : ?

- Ans
- 1. उपचार
 - 2. विमान
 - 3. बेचना
 - 4. रूपरेखा

Question Type : MCQ

Question ID : 264330133468

Option 1 ID : 264330522905

Option 2 ID : 264330522903

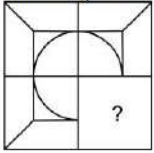
Option 3 ID : 264330522906

Option 4 ID : 264330522904

Status : Answered

Chosen Option : 2

Q.18 उस विकल्प आकृति को चुनिए जो नीचे दी गई आकृति में पैटर्न को पूरा करने के लिए प्रश्न चिन्ह (?) के स्थान पर आएगी। (घूर्णन की अनुमति नहीं है)।



Ans

- 1.
- 2.
- 3.
- 4.

Question Type : MCQ

Question ID : 264330133485

Option 1 ID : 264330522971

Option 2 ID : 264330522974

Option 3 ID : 264330522972

Option 4 ID : 264330522973

Status : Answered

Chosen Option : 4

Q.19 दी गई श्रृंखला में निम्नलिखित में से कौन-सी संख्या प्रश्न चिन्ह (?) के स्थान पर आएगी?
58, 62, 71, 87, 112, ?

- Ans
- 1. 140
 - 2. 138
 - 3. 158
 - 4. 148

Question Type : MCQ

Question ID : 264330133478

Option 1 ID : 264330522946

Option 2 ID : 264330522943

Option 3 ID : 264330522945

Option 4 ID : 264330522944

Status : Answered

Chosen Option : 4

Q.20 उस विकल्प को चुनिए जो तीसरी संख्या से ठीक उसी तरह संबंधित है जिस तरह दूसरी संख्या पहली संख्या से संबंधित है।

346 : 175 :: 250 : ?

- Ans
- 1. 271
 - 2. 213
 - 3. 127
 - 4. 174

Question Type : MCQ

Question ID : 264330133333

Option 1 ID : 264330522367

Option 2 ID : 264330522370

Option 3 ID : 264330522368

Option 4 ID : 264330522369

Status : Answered

Chosen Option : 3

Section : General Awareness

Q.1 आयनिक यौगिक $MgCl_2$ का रासायनिक नाम क्या है?

- Ans
- 1. सीज़ियम फ्लोराइड (Cesium fluoride)
 - 2. सोडियम आयोडाइड (Sodium iodide)
 - 3. मैंगनीज़ क्लोराइड (Manganese chloride)
 - 4. मैग्नीशियम क्लोराइड (Magnesium chloride)

Question Type : MCQ

Question ID : 264330133653

Option 1 ID : 264330523636

Option 2 ID : 264330523637

Option 3 ID : 264330523635

Option 4 ID : 264330523638

Status : Answered

Chosen Option : 4

Q.2 भारत की कौन-सी नदी बंगाल की खाड़ी में गिरती है?

- Ans
- 1. नर्मदा
 - 2. गोदावरी
 - 3. माही
 - 4. तापी

Question Type : MCQ
Question ID : 264330133941
Option 1 ID : 264330524789
Option 2 ID : 264330524790
Option 3 ID : 264330524788
Option 4 ID : 264330524787
Status : Answered
Chosen Option : 2

Q.3 लाला लाजपत राय किस संगठन के एक सक्रिय सदस्य थे?

- Ans
- 1. ब्रह्म सभा
 - 2. प्रार्थना सभा
 - 3. आर्य समाज
 - 4. ब्रह्म समाज

Question Type : MCQ
Question ID : 264330137035
Option 1 ID : 264330536786
Option 2 ID : 264330536784
Option 3 ID : 264330536785
Option 4 ID : 264330536783
Status : Answered
Chosen Option : 4

Q.4 निम्नलिखित में से कौन-सा नृत्य भारत के जम्मू और कश्मीर का एक लोक नृत्य है?

- Ans
- 1. रऊफ (Rouf)
 - 2. बिहू
 - 3. भांगड़ा
 - 4. कथक

Question Type : MCQ
Question ID : 264330133933
Option 1 ID : 264330524756
Option 2 ID : 264330524758
Option 3 ID : 264330524757
Option 4 ID : 264330524755
Status : Answered
Chosen Option : 1

Q.5 प्रत्येक टीम में ग्यारह खिलाड़ियों वाली दो टीमों के बीच निम्न में से कौन-सा खेल खेला जाता है?

- Ans
- 1. तैराकी
 - 2. टेबल टेनिस
 - 3. बास्केटबॉल
 - 4. क्रिकेट

Question Type : MCQ

Question ID : 264330133671

Option 1 ID : 264330523707

Option 2 ID : 264330523710

Option 3 ID : 264330523709

Option 4 ID : 264330523708

Status : Answered

Chosen Option : 4

Q.6 आठवीं शताब्दी के मध्य में, एक राष्ट्रकूट प्रमुख, दन्तिदुर्ग ने अपने चालुक्य अधिपति का तख्ता पलट करके एक अनुष्ठान करवाया जिसे शाब्दिक रूप से _____ कहा जाता था।

- Ans
- 1. प्रार्थना सभा
 - 2. घुड़सवारी
 - 3. सहायक गठबंधन
 - 4. हिरण्य गर्भ

Question Type : MCQ

Question ID : 264330137698

Option 1 ID : 264330539402

Option 2 ID : 264330539401

Option 3 ID : 264330539399

Option 4 ID : 264330539400

Status : Answered

Chosen Option : 4

Q.7 चार दिवसीय फसल कटाई उत्सव पोंगल आमतौर पर _____ में मनाया जाता है।

- Ans
- 1. दक्षिण भारत
 - 2. पूर्वी भारत
 - 3. उत्तर भारत
 - 4. उत्तर-पूर्वी भारत

Question Type : MCQ

Question ID : 264330137012

Option 1 ID : 264330536692

Option 2 ID : 264330536694

Option 3 ID : 264330536691

Option 4 ID : 264330536693

Status : Answered

Chosen Option : 1

Q.8 भारतीय शास्त्रीय नृत्यांगना सोनल मानसिंह को निम्नलिखित में से किन पुरस्कारों से सम्मानित किया गया?

- Ans
- ✓ 1. पद्म भूषण और पद्म विभूषण
 - ✗ 2. पद्म विभूषण और पद्म श्री
 - ✗ 3. पद्म भूषण और भारतरत्न
 - ✗ 4. पद्म भूषण और पद्म श्री

Question Type : MCQ
Question ID : 264330134688
Option 1 ID : 264330527708
Option 2 ID : 264330527709
Option 3 ID : 264330527710
Option 4 ID : 264330527707
Status : Answered
Chosen Option : 1

Q.9 दंत कथाओं के संग्रह, पंचतंत्र की रचना किसने की थी?

- Ans
- ✗ 1. जय देव
 - ✓ 2. विष्णु शर्मा
 - ✗ 3. रूमी
 - ✗ 4. अमर सिंह

Question Type : MCQ
Question ID : 264330134686
Option 1 ID : 264330527700
Option 2 ID : 264330527702
Option 3 ID : 264330527699
Option 4 ID : 264330527701
Status : Answered
Chosen Option : 2

Q.10 11 अगस्त 2022 तक, राज्य सभा के सभापति कौन हैं?

- Ans
- ✓ 1. जगदीप धनखड़
 - ✗ 2. अमित शाह
 - ✗ 3. नरेंद्र मोदी
 - ✗ 4. अधीर रंजन चौधरी

Question Type : MCQ
Question ID : 264330133952
Option 1 ID : 264330524832
Option 2 ID : 264330524831
Option 3 ID : 264330524834
Option 4 ID : 264330524833
Status : Answered
Chosen Option : 1

Q.11 1192 ईस्वी में तराइन के द्वितीय युद्ध में पृथ्वीराज चौहान को किसने पराजित किया था?

- Ans
- 1. अलाउद्दीन खिलजी (Alauddin Khilji)
 - 2. बाबर (Babur)
 - 3. इल्तुतमिश (Iltutmish)
 - 4. मोहम्मद गोरी (Muhammad Ghori)

Question Type : MCQ
Question ID : 264330133662
Option 1 ID : 264330523674
Option 2 ID : 264330523671
Option 3 ID : 264330523673
Option 4 ID : 264330523672
Status : Answered
Chosen Option : 4

Q.12 किसी चुनाव में मतदान करने वाले पात्र मतदाताओं के प्रतिशत को _____ कहा जाता है।

- Ans
- 1. वीटो (Veto)
 - 2. मतदान प्रतिशत (Turnout)
 - 3. कोरम (Quorum)
 - 4. मतदाता वर्ग (Constituency)

Question Type : MCQ
Question ID : 264330138660
Option 1 ID : 264330543248
Option 2 ID : 264330543247
Option 3 ID : 264330543250
Option 4 ID : 264330543249
Status : Answered
Chosen Option : 2

Q.13 टाटा आयरन एंड स्टील कंपनी (टिस्को) ने सन् _____ में स्टील का उत्पादन शुरू किया था।

- Ans
- 1. 1910
 - 2. 1914
 - 3. 1912
 - 4. 1916

Question Type : MCQ
Question ID : 264330138672
Option 1 ID : 264330543295
Option 2 ID : 264330543297
Option 3 ID : 264330543296
Option 4 ID : 264330543298
Status : Answered
Chosen Option : 1

Q.14 मीना अवसादी शैल के एक उदाहरण के बारे में चर्चा करती है। निम्न में से वह कौन-सा हो सकता है?

- Ans
- 1. बेसाल्ट (Basalt)
 - 2. ग्रेनाइट (Granite)
 - 3. बलुआ पत्थर(Sandstone)
 - 4. संगमरमर (Marble)

Question Type : MCQ

Question ID : 264330133656

Option 1 ID : 264330523647

Option 2 ID : 264330523650

Option 3 ID : 264330523648

Option 4 ID : 264330523649

Status : Answered

Chosen Option : 3

Q.15 पद्म श्री पुरस्कार पाने वाली पहली भारतीय अभिनेत्री कौन थीं?

- Ans
- 1. आशा पारेख
 - 2. नरगिस दत्त
 - 3. मधुबाला
 - 4. देविका रानी

Question Type : MCQ

Question ID : 264330133949

Option 1 ID : 264330524820

Option 2 ID : 264330524821

Option 3 ID : 264330524822

Option 4 ID : 264330524819

Status : Answered

Chosen Option : 4

Q.16 निम्नलिखित में से कौन-सा प्राणी जगत के फाइलम मैमेलिया का एक उदाहरण है?

- Ans
- 1. चूहा
 - 2. कबूतर
 - 3. मगरमच्छ
 - 4. मुर्गी

Question Type : MCQ

Question ID : 264330133937

Option 1 ID : 264330524771

Option 2 ID : 264330524774

Option 3 ID : 264330524773

Option 4 ID : 264330524772

Status : Answered

Chosen Option : 1

Q.17 निम्नलिखित में से किस फसल को बंगाल का "सुनहरा रेशा (Golden Fibre)" कहा जाता है?

- Ans
- 1. मक्का
 - 2. सोयाबीन
 - 3. चावल
 - 4. जूट

Question Type : MCQ
Question ID : 264330134678
Option 1 ID : 264330527669
Option 2 ID : 264330527668
Option 3 ID : 264330527667
Option 4 ID : 264330527670
Status : Answered
Chosen Option : 4

Q.18 जैनों के अंतिम तीर्थंकर कौन थे?

- Ans
- 1. चंद्रप्रभ
 - 2. ऋषभनाथ
 - 3. वर्धमान महावीर
 - 4. पद्मप्रभ

Question Type : MCQ
Question ID : 264330137032
Option 1 ID : 264330536773
Option 2 ID : 264330536771
Option 3 ID : 264330536772
Option 4 ID : 264330536774
Status : Answered
Chosen Option : 3

Q.19 भारत में हर _____ के अंतराल पर जनगणना की जाती है।

- Ans
- 1. 2 वर्ष
 - 2. 7 वर्ष
 - 3. 10 वर्ष
 - 4. 5 वर्ष

Question Type : MCQ
Question ID : 264330134067
Option 1 ID : 264330525294
Option 2 ID : 264330525292
Option 3 ID : 264330525291
Option 4 ID : 264330525293
Status : Answered
Chosen Option : 3

Q.20 निम्नलिखित में से कौन-सा एक पर्यावरण कार्य (environment function) नहीं है?

- Ans
- 1. जीवन की गुणवत्ता को बढ़ाना
 - 2. संसाधनों की आपूर्ति करना
 - 3. अपशिष्ट का संचय
 - 4. जीवन निर्वाह

Question Type : MCQ

Question ID : 264330133655

Option 1 ID : 264330523646

Option 2 ID : 264330523643

Option 3 ID : 264330523645

Option 4 ID : 264330523644

Status : Not Answered

Chosen Option : --

Q.21 GDP देश की अर्थव्यवस्था का सूचक है। GDP में 'D' का क्या अर्थ है?

- Ans
- 1. डेफिसिट (Deficit)
 - 2. डॉमेस्टिक (Domestic)
 - 3. डेवलपमेंट (Development)
 - 4. डिविडेंड (Dividend)

Question Type : MCQ

Question ID : 264330134693

Option 1 ID : 264330527729

Option 2 ID : 264330527730

Option 3 ID : 264330527727

Option 4 ID : 264330527728

Status : Answered

Chosen Option : 2

Q.22 क्रिकेट में, गेंद को मारने पर, गेंद मैदान पर दौड़ती हुई निर्धारित सीमा के पार जाती है, यह _____ रन के बराबर है।

- Ans
- 1. 6
 - 2. 1
 - 3. 4
 - 4. 2

Question Type : MCQ

Question ID : 264330133953

Option 1 ID : 264330524838

Option 2 ID : 264330524835

Option 3 ID : 264330524837

Option 4 ID : 264330524836

Status : Answered

Chosen Option : 3

Q.23 भारतीय संविधान में शासन के मंत्रिमंडलीय स्वरूप को _____ से लिया गया है।

- Ans
- 1. फ्रांस
 - 2. दक्षिण अफ्रीका
 - 3. ऑस्ट्रेलिया
 - 4. यूनाइटेड किंगडम

Question Type : MCQ
Question ID : 264330133951
Option 1 ID : 264330524827
Option 2 ID : 264330524830
Option 3 ID : 264330524829
Option 4 ID : 264330524828
Status : Answered
Chosen Option : 4

Q.24 The rock – cave temple of _____ is the largest monolithic structure in the world.

- Ans
- 1. Ajanta
 - 2. Badami
 - 3. Ellora
 - 4. Udaygiri

Question Type : MCQ
Question ID : 264330138651
Option 1 ID : 264330543214
Option 2 ID : 264330543212
Option 3 ID : 264330543211
Option 4 ID : 264330543213
Status : Answered
Chosen Option : 3

Q.25 भारत सरकार के किस विभाग ने अप्रैल 2022 में 'वन हैल्थ'(One Health) पायलट प्रोजेक्ट की शुरुआत की है?

- Ans
- 1. वाणिज्य विभाग
 - 2. सूचना प्रौद्योगिकी विभाग
 - 3. पशुपालन और डेयरी विभाग
 - 4. उपभोक्ता मामलों के विभाग

Question Type : MCQ
Question ID : 264330133931
Option 1 ID : 264330524750
Option 2 ID : 264330524749
Option 3 ID : 264330524748
Option 4 ID : 264330524747
Status : Answered
Chosen Option : 2

Q.1 Select the appropriate synonym for the underlined word.
“Little Red Riding Hood” is a fairy tale.

- Ans** 1. story
 2. fact
 3. tail
 4. document

Question Type : **MCQ**
Question ID : **264330134414**
Option 1 ID : **264330526633**
Option 2 ID : **264330526634**
Option 3 ID : **264330526631**
Option 4 ID : **264330526632**
Status : **Answered**
Chosen Option : **1**

Q.2 In the following question, out of the given four alternatives, select the alternative which best expresses the meaning of the Idiom/Phrase.
On account of

- Ans** 1. To mark one's territory
 2. Because of
 3. To make excuses
 4. To settle dues

Question Type : **MCQ**
Question ID : **264330134314**
Option 1 ID : **264330526249**
Option 2 ID : **264330526247**
Option 3 ID : **264330526250**
Option 4 ID : **264330526248**
Status : **Answered**
Chosen Option : **2**

Q.3 Select the most appropriate option to fill in the blank.

If she hadn't _____ her cell phone on the bed, she could have called him.

- Ans** 1. through
 2. thrown
 3. throne
 4. throng

Question Type : **MCQ**
Question ID : **264330135306**
Option 1 ID : **264330530135**
Option 2 ID : **264330530137**
Option 3 ID : **264330530138**
Option 4 ID : **264330530136**
Status : **Answered**
Chosen Option : **2**

Q.4 Select the appropriate antonym for the underlined word.
He says we are poor now.

- Ans
- 1. barren
 - 2. indigent
 - 3. ruined
 - 4. opulent

Question Type : **MCQ**
Question ID : **264330134417**
Option 1 ID : **264330526646**
Option 2 ID : **264330526643**
Option 3 ID : **264330526644**
Option 4 ID : **264330526645**
Status : **Answered**
Chosen Option : **4**

Q.5 Choose the word that is opposite in meaning to the given word.

Abort

- Ans
- 1. Commence
 - 2. Collision
 - 3. Commode
 - 4. Command

Question Type : **MCQ**
Question ID : **264330136787**
Option 1 ID : **264330535849**
Option 2 ID : **264330535850**
Option 3 ID : **264330535847**
Option 4 ID : **264330535848**
Status : **Answered**
Chosen Option : **1**

Q.6 Choose the word that can substitute the given group of words.
A living organism that steals nourishment from other living beings

- Ans
- 1. Insect
 - 2. Co – Dependent
 - 3. Vector
 - 4. Parasite

Question Type : **MCQ**
Question ID : **264330134308**
Option 1 ID : **264330526225**
Option 2 ID : **264330526224**
Option 3 ID : **264330526223**
Option 4 ID : **264330526226**
Status : **Answered**
Chosen Option : **4**

Q.7 Improve the underlined part of the sentence. Choose 'No improvement' as an answer if the sentence is grammatically correct.

Though a foreigner, Mother Teresa settle in Calcutta and made it her home.

Ans ✓ 1. settled in Calcutta and

✗ 2. No improvement

✗ 3. settle over Calcutta as

✗ 4. settling in Calcutta or

Question Type : MCQ

Question ID : 264330134403

Option 1 ID : 264330526591

Option 2 ID : 264330526594

Option 3 ID : 264330526593

Option 4 ID : 264330526592

Status : Answered

Chosen Option : 1

Q.8 A sentence has been given with a blank to be filled with an appropriate option. Choose the correct alternative.

_____ from humans, lions are the key natural predators of elephants.

Ans ✗ 1. Along

✗ 2. Rather

✓ 3. Aside

✗ 4. Beside

Question Type : MCQ

Question ID : 264330135315

Option 1 ID : 264330530171

Option 2 ID : 264330530174

Option 3 ID : 264330530172

Option 4 ID : 264330530173

Status : Answered

Chosen Option : 4

Q.9 In the following question, out of the given four alternatives, select the alternative which best expresses the meaning of the Idiom/Phrase.

To work against the clocks

Ans ✗ 1. To fill one with terror

✓ 2. To work fast

✗ 3. To die while still working

✗ 4. To move anti-clockwise

Question Type : MCQ

Question ID : 264330134419

Option 1 ID : 264330526652

Option 2 ID : 264330526653

Option 3 ID : 264330526654

Option 4 ID : 264330526651

Status : Answered

Chosen Option : 2

Q.10 Choose the word that can substitute the given group of words.
A government run by a single person

- Ans
- 1. Anocracy
 - 2. Gerontocracy
 - 3. Bureaucracy
 - 4. Autocracy

Question Type : **MCQ**
Question ID : **264330134413**
Option 1 ID : **264330526628**
Option 2 ID : **264330526627**
Option 3 ID : **264330526630**
Option 4 ID : **264330526629**
Status : **Answered**
Chosen Option : **4**

Q.11 Find the part of the given sentence that has an error in it. If there is no error, choose 'No error'.

Neither teachers or the principal revolted against the new education policy.

- Ans
- 1. Neither teachers or
 - 2. the principal revolted against
 - 3. the new education policy.
 - 4. No error

Question Type : **MCQ**
Question ID : **264330135282**
Option 1 ID : **264330530043**
Option 2 ID : **264330530044**
Option 3 ID : **264330530045**
Option 4 ID : **264330530046**
Status : **Answered**
Chosen Option : **1**

Q.12 Find the part of the given sentence that has an error in it. If there is no error, choose 'No error'.

India's claim to be a world leader in pharmaceuticals are heavily compromised.

- Ans
- 1. world leader in pharmaceuticals
 - 2. No error
 - 3. are heavily compromised.
 - 4. India's claim to be a

Question Type : **MCQ**
Question ID : **264330134400**
Option 1 ID : **264330526580**
Option 2 ID : **264330526582**
Option 3 ID : **264330526581**
Option 4 ID : **264330526579**
Status : **Answered**
Chosen Option : **3**

Q.13 Choose the sentence with no spelling error.

- Ans**
- 1. Alice turned away, and shugged her sholders.
 - 2. Alice turned away, and shruged her sholders.
 - 3. Alice truned away, and shrugged her shoulders.
 - 4. Alice turned away, and shrugged her shoulders.

Question Type : **MCQ**

Question ID : **264330135305**

Option 1 ID : **264330530134**

Option 2 ID : **264330530133**

Option 3 ID : **264330530131**

Option 4 ID : **264330530132**

Status : **Answered**

Chosen Option : **4**

Q.14 Select the most appropriate option to substitute the bracketed segment in the given sentence. If there is no need to substitute it, select 'no substitution required'.

He has 33 years of professional experience (on the field of) Public Administration.

- Ans**
- 1. in the field off
 - 2. over field of
 - 3. No substitution required
 - 4. in the field of

Question Type : **MCQ**

Question ID : **264330136035**

Option 1 ID : **264330532961**

Option 2 ID : **264330532959**

Option 3 ID : **264330532962**

Option 4 ID : **264330532960**

Status : **Answered**

Chosen Option : **4**

Q.15 Choose the word that means the same as the given word.

Fabulously

- Ans**
- 1. Nominally
 - 2. Fantastically
 - 3. Scantly
 - 4. Scarcely

Question Type : **MCQ**

Question ID : **264330135325**

Option 1 ID : **264330530210**

Option 2 ID : **264330530209**

Option 3 ID : **264330530207**

Option 4 ID : **264330530208**

Status : **Answered**

Chosen Option : **2**

Q.16 Select the most appropriate option to fill in the blank.
Sometimes we wish for things, but we do not think about their _____.

- Ans
- 1. hazards
 - 2. copiousness
 - 3. fractions
 - 4. consequences

Question Type : **MCQ**
Question ID : **264330134423**
Option 1 ID : **264330526668**
Option 2 ID : **264330526667**
Option 3 ID : **264330526669**
Option 4 ID : **264330526670**
Status : **Answered**
Chosen Option : **4**

Q.17 Choose the incorrectly spelt word.

- Ans
- 1. Structrure
 - 2. Havoc
 - 3. Recently
 - 4. Brush

Question Type : **MCQ**
Question ID : **264330134420**
Option 1 ID : **264330526657**
Option 2 ID : **264330526656**
Option 3 ID : **264330526655**
Option 4 ID : **264330526658**
Status : **Answered**
Chosen Option : **1**

Q.18 A sentence has been given with a blank to be filled with an appropriate option. Choose the correct alternative.
The school was _____ than a mile from their home.

- Ans
- 1. more
 - 2. most
 - 3. many
 - 4. much

Question Type : **MCQ**
Question ID : **264330134404**
Option 1 ID : **264330526595**
Option 2 ID : **264330526597**
Option 3 ID : **264330526598**
Option 4 ID : **264330526596**
Status : **Answered**
Chosen Option : **1**

Q.19 Identify the segment that contains a grammatical error. If there is no error, select 'No error'.
When he buckled down to his / work he became the slyer / and cleverest of diplomats.

- Ans**
- 1. When he buckled down to his
 - 2. and cleverest of diplomats.
 - 3. No error
 - 4. work he became the slyer

Question Type : **MCQ**
Question ID : **264330136032**
Option 1 ID : **264330532947**
Option 2 ID : **264330532949**
Option 3 ID : **264330532950**
Option 4 ID : **264330532948**
Status : **Answered**
Chosen Option : **2**

Q.20 Improve the underlined part of the sentence. Choose 'No improvement' as an answer if the sentence is grammatically correct.
She works for eight hours every weekday.

- Ans**
- 1. No improvement
 - 2. for eighth hours
 - 3. of eighth hour
 - 4. for eight hourly

Question Type : **MCQ**
Question ID : **264330134349**
Option 1 ID : **264330526386**
Option 2 ID : **264330526383**
Option 3 ID : **264330526385**
Option 4 ID : **264330526384**
Status : **Answered**
Chosen Option : **1**

Comprehension:

In the following passage some of the words have been deleted. Read the passage carefully and select the correct answer for the given blank out of the four alternatives.

After a rejection, we tend to beat ourselves up over the things that might have (1) _____ us to be rejected — and might even end up dwelling on these negative (2) _____, a process called rumination. This habit, however, inevitably causes us to (3) _____ worse. "The first thing a lot of people do when they get rejected is to be unkind to (4) _____, and they start coming up with all kinds of ideas about what's (5) _____ with them," Gottlieb notes.

SubQuestion No : 21

Q.21 Select the most appropriate option to fill in the blank No. 1.

- Ans**
- 1. let
 - 2. led
 - 3. leading
 - 4. lead

Question Type : **MCQ**
Question ID : **264330136778**
Option 1 ID : **264330535814**
Option 2 ID : **264330535811**
Option 3 ID : **264330535813**
Option 4 ID : **264330535812**
Status : **Answered**
Chosen Option : **2**

Comprehension:

In the following passage some of the words have been deleted. Read the passage carefully and select the correct answer for the given blank out of the four alternatives.

After a rejection, we tend to beat ourselves up over the things that might have (1) _____ us to be rejected — and might even end up dwelling on these negative (2) _____, a process called rumination. This habit, however, inevitably causes us to (3) _____ worse. "The first thing a lot of people do when they get rejected is to be unkind to (4) _____, and they start coming up with all kinds of ideas about what's (5) _____ with them," Gottlieb notes.

SubQuestion No : 22

Q.22 Select the most appropriate option to fill in the blank No. 2.

- Ans**
- 1. emotions
 - 2. endurance
 - 3. stoppages
 - 4. formalities

Question Type : **MCQ**
Question ID : **264330136779**
Option 1 ID : **264330535816**
Option 2 ID : **264330535815**
Option 3 ID : **264330535817**
Option 4 ID : **264330535818**
Status : **Answered**
Chosen Option : **4**

Comprehension:

In the following passage some of the words have been deleted. Read the passage carefully and select the correct answer for the given blank out of the four alternatives.

After a rejection, we tend to beat ourselves up over the things that might have (1) _____ us to be rejected — and might even end up dwelling on these negative (2) _____, a process called rumination. This habit, however, inevitably causes us to (3) _____ worse. "The first thing a lot of people do when they get rejected is to be unkind to (4) _____, and they start coming up with all kinds of ideas about what's (5) _____ with them," Gottlieb notes.

SubQuestion No : 23

Q.23 Select the most appropriate option to fill in the blank No. 3.

- Ans**
- 1. recognize
 - 2. share
 - 3. swirl
 - 4. feel

Question Type : **MCQ**
Question ID : **264330136780**
Option 1 ID : **264330535820**
Option 2 ID : **264330535819**
Option 3 ID : **264330535821**
Option 4 ID : **264330535822**
Status : **Answered**
Chosen Option : **4**

Comprehension:

In the following passage some of the words have been deleted. Read the passage carefully and select the correct answer for the given blank out of the four alternatives.

After a rejection, we tend to beat ourselves up over the things that might have (1) _____ us to be rejected — and might even end up dwelling on these negative (2) _____, a process called rumination. This habit, however, inevitably causes us to (3) _____ worse. "The first thing a lot of people do when they get rejected is to be unkind to (4) _____, and they start coming up with all kinds of ideas about what's (5) _____ with them," Gottlieb notes.

SubQuestion No : 24

Q.24 Select the most appropriate option to fill in the blank No. 4.

- Ans**
- 1. himself
 - 2. themselves
 - 3. itself
 - 4. yourself

Question Type : **MCQ**

Question ID : **264330136781**

Option 1 ID : **264330535826**

Option 2 ID : **264330535824**

Option 3 ID : **264330535825**

Option 4 ID : **264330535823**

Status : **Answered**

Chosen Option : **2**

Comprehension:

In the following passage some of the words have been deleted. Read the passage carefully and select the correct answer for the given blank out of the four alternatives.

After a rejection, we tend to beat ourselves up over the things that might have (1) _____ us to be rejected — and might even end up dwelling on these negative (2) _____, a process called rumination. This habit, however, inevitably causes us to (3) _____ worse. "The first thing a lot of people do when they get rejected is to be unkind to (4) _____, and they start coming up with all kinds of ideas about what's (5) _____ with them," Gottlieb notes.

SubQuestion No : 25

Q.25 Select the most appropriate option to fill in the blank No. 5.

- Ans**
- 1. wrong
 - 2. strong
 - 3. syncing
 - 4. taming

Question Type : **MCQ**

Question ID : **264330136782**

Option 1 ID : **264330535827**

Option 2 ID : **264330535828**

Option 3 ID : **264330535829**

Option 4 ID : **264330535830**

Status : **Answered**

Chosen Option : **1**

Multi Tasking Non Technical Staff and Havaladar CBIC and CBN Examination 2022

Roll Number	KD Job Updates
Candidate Name	KD Job Updates
Venue Name	iON Digital Zone iDZ Laxman Nagar
Exam Date	16/05/2023
Exam Time	3:30 PM - 5:00 PM
Subject	MTS Non Tech Havaladar CBIC and CBN Examination 2022

Section : Numerical and Mathematical Ability

Q.1 यदि एक आयत की लम्बाई में 13% की कमी की जाती है और चौड़ाई में 13% की वृद्धि की जाती है, तो इसके क्षेत्रफल में प्रतिशत परिवर्तन ज्ञात कीजिए।

- Ans
- 1. 1.69% वृद्धि
 - 2. 13% कमी
 - 3. 1.69% कमी
 - 4. कोई परिवर्तन नहीं

Question Type : MCQ

Question ID : 264330135431

Option 1 ID : 264330530632

Option 2 ID : 264330530634

Option 3 ID : 264330530633

Option 4 ID : 264330530631

Status : Answered

Chosen Option : 3

Q.2 एक व्यापारी अपने माल को क्रय मूल्य से 55% अधिक मूल्य पर अंकित करता है और 20% का बट्टा देता है। उसका लाभ प्रतिशत कितना है?

- Ans
- 1. 22%
 - 2. 16%
 - 3. 24%
 - 4. 18%

Question Type : MCQ

Question ID : 264330138399

Option 1 ID : 264330542203

Option 2 ID : 264330542206

Option 3 ID : 264330542204

Option 4 ID : 264330542205

Status : Answered

Chosen Option : 2

Q.3 यदि $(x + y) : (y + z) : (z + x) = 3 : 5 : 7$ और $(x + y + z) = 45$ है, तो z का मान क्या है?

- Ans
- 1. 18
 - 2. 27
 - 3. 30
 - 4. 20

Question Type : MCQ

Question ID : 264330138400

Option 1 ID : 264330542209

Option 2 ID : 264330542208

Option 3 ID : 264330542207

Option 4 ID : 264330542210

Status : Answered

Chosen Option : 1

Q.4 55 मीटर कपड़ा बेचने पर, एक व्यक्ति को 11 मीटर कपड़े के विक्रय मूल्य के बराबर लाभ होता है। लाभ प्रतिशत ज्ञात कीजिए।

- Ans
- 1. 15%
 - 2. 25%
 - 3. 33%
 - 4. 23%

Question Type : MCQ

Question ID : 264330138398

Option 1 ID : 264330542199

Option 2 ID : 264330542201

Option 3 ID : 264330542202

Option 4 ID : 264330542200

Status : Answered

Chosen Option : 2

Q.5 A और B दिए गए कार्य को साथ मिलकर 10 दिनों में पूरा कर सकते हैं। C उसी कार्य को अकेले 15 दिनों में पूरा कर सकता है। यदि तीनों साथ मिलकर कार्य करें, तो वे इस कार्य को कितने दिनों में पूरा कर सकते हैं?

- Ans
- 1. 6 दिनों
 - 2. 8 दिनों
 - 3. 5 दिनों
 - 4. 10 दिनों

Question Type : MCQ

Question ID : 264330135427

Option 1 ID : 264330530616

Option 2 ID : 264330530615

Option 3 ID : 264330530618

Option 4 ID : 264330530617

Status : Answered

Chosen Option : 1

Q.6 रीमा Rs. 1000 में एक कुर्सी खरीदती है और इसे 8% की हानि पर बेच देती है। कुर्सी का विक्रय मूल्य क्या है?

- Ans
- 1. Rs. 980
 - 2. Rs. 1000
 - 3. Rs. 900
 - 4. Rs. 920

Question Type : MCQ

Question ID : 264330141003

Option 1 ID : 264330552360

Option 2 ID : 264330552361

Option 3 ID : 264330552362

Option 4 ID : 264330552359

Status : Answered

Chosen Option : 4

Q.7 A का मान ज्ञात कीजिए।

$$(64 \div 8) - A + 4 \times 23 + 45 - 87 = 53$$

- Ans
- 1. 5
 - 2. 3
 - 3. 4
 - 4. 6

Question Type : MCQ

Question ID : 264330138747

Option 1 ID : 264330543595

Option 2 ID : 264330543597

Option 3 ID : 264330543596

Option 4 ID : 264330543598

Status : Answered

Chosen Option : 4

Q.8 एक नाविक धारा के अनुकूल 15 मिनट में 15 km और धारा के प्रतिकूल 1 घंटे में 10 km नाव चलाता है। स्थिर जल में नाव की चाल ज्ञात कीजिए।

- Ans
- 1. 35 km/hr
 - 2. 33 km/hr
 - 3. 26 km/hr
 - 4. 40 km/hr

Question Type : MCQ

Question ID : 264330138404

Option 1 ID : 264330542226

Option 2 ID : 264330542224

Option 3 ID : 264330542223

Option 4 ID : 264330542225

Status : Answered

Chosen Option : 1

Q.9 देव ने स्कूल प्रोजेक्ट को अकेले 40 दिनों में पूरा किया। यदि अरुण, देव से 25% अधिक कुशल है तो अरुण को उसी कार्य को अकेले पूरा करने में कितने दिन लगेंगे?

- Ans
- 1. 32 दिन
 - 2. 16 दिन
 - 3. 35 दिन
 - 4. 14 दिन

Question Type : MCQ

Question ID : 264330138760

Option 1 ID : 264330543647

Option 2 ID : 264330543648

Option 3 ID : 264330543650

Option 4 ID : 264330543649

Status : Answered

Chosen Option : 1

Q.10 21, 49 और 18 का चतुर्थ समानुपाती ज्ञात कीजिए।

- Ans
- 1. 44
 - 2. 49
 - 3. 42
 - 4. 56

Question Type : MCQ

Question ID : 264330138401

Option 1 ID : 264330542211

Option 2 ID : 264330542214

Option 3 ID : 264330542213

Option 4 ID : 264330542212

Status : Answered

Chosen Option : 3

Q.11 एक व्यक्ति किसी स्थान पर कार से 144 km/hr की चाल से जाता है और धीमी चाल से वापस आता है। यदि औसत चाल कुल 60 km/hr है, तो उसकी वापसी की चाल (km/hr में) ज्ञात कीजिए।

- Ans
- 1. 22.25 km/hr
 - 2. 40.05 km/hr
 - 3. 37.89 km/hr
 - 4. 33.33 km/hr

Question Type : MCQ

Question ID : 264330135373

Option 1 ID : 264330530399

Option 2 ID : 264330530401

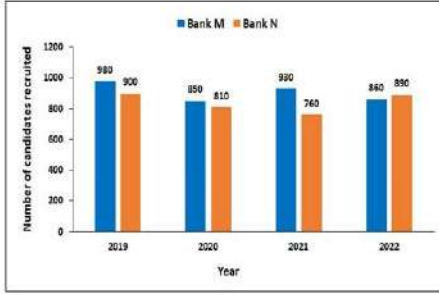
Option 3 ID : 264330530402

Option 4 ID : 264330530400

Status : Answered

Chosen Option : 2

Q.12 निम्न दंड आलेख में 2 अलग-अलग बैंकों M और N में अलग-अलग वर्षों में नियुक्त किए गए उम्मीदवारों की संख्या को दर्शाया गया है। सभी वर्षों में मिलाकर बैंक N में उम्मीदवारों की औसत संख्या कितनी है?



Bank - बैंक, Year - वर्ष, Number of Candidates recruited - नियुक्त किए गए उम्मीदवारों की संख्या

- Ans
- 1. 850
 - 2. 720
 - 3. 840
 - 4. 700

Question Type : MCQ

Question ID : 264330138408

Option 1 ID : 264330542241

Option 2 ID : 264330542239

Option 3 ID : 264330542242

Option 4 ID : 264330542240

Status : Answered

Chosen Option : 3

Q.13 $74 + 88 \div 8 \times 10$ of $5 - 90 \div 15 + \{44 - (108 \div 12)\}$ का मान है:

- Ans
- 1. 700
 - 2. 770
 - 3. 653
 - 4. 605

Question Type : MCQ

Question ID : 264330133777

Option 1 ID : 264330524134

Option 2 ID : 264330524132

Option 3 ID : 264330524131

Option 4 ID : 264330524133

Status : Answered

Chosen Option : 2

Q.14 8 वर्ष और 20 वर्ष के लिए समान व्याज दर पर एक निश्चित राशि द्वारा अर्जित साधारण व्याज का अनुपात क्या होगा?

- Ans
- 1. 3:5
 - 2. 5:7
 - 3. 4:3
 - 4. 2:5

Question Type : MCQ

Question ID : 264330138446

Option 1 ID : 264330542393

Option 2 ID : 264330542394

Option 3 ID : 264330542392

Option 4 ID : 264330542391

Status : Answered

Chosen Option : 4

Q.15 तीन संख्याएँ 2:3:5 के अनुपात में हैं और उनका लघुत्तम समापवर्त्य (LCM) 60 है। उन संख्याओं का महत्तम समापवर्तक (HCF) क्या है?

- Ans
- 1. 2
 - 2. 10
 - 3. 6
 - 4. 4

Question Type : MCQ

Question ID : 264330141011

Option 1 ID : 264330552391

Option 2 ID : 264330552394

Option 3 ID : 264330552393

Option 4 ID : 264330552392

Status : Answered

Chosen Option : 3

Q.16 चार भाइयों की औसत आयु 24 वर्ष है। यदि उनके पिता की आयु को भी शामिल कर लिया जाए, तो औसत में 6 वर्ष की वृद्धि हो जाती है। पिता की आयु(वर्षों में) ज्ञात कीजिए।

- Ans
- 1. 54 वर्ष
 - 2. 50 वर्ष
 - 3. 55 वर्ष
 - 4. 52 वर्ष

Question Type : MCQ

Question ID : 264330138393

Option 1 ID : 264330542182

Option 2 ID : 264330542179

Option 3 ID : 264330542180

Option 4 ID : 264330542181

Status : Answered

Chosen Option : 1

Q.17 $[7 + \{4 \times (2 + 5 \times 4)\}]$ का मान ज्ञात कीजिए।

- Ans
- 1. 85
 - 2. 55
 - 3. 45
 - 4. 95

Question Type : MCQ
Question ID : 264330138390
Option 1 ID : 264330542170
Option 2 ID : 264330542169
Option 3 ID : 264330542168
Option 4 ID : 264330542167
Status : Answered
Chosen Option : 2

Q.18 80 के 80 प्रतिशत का 225 प्रतिशत = _____।

- Ans
- 1. 138
 - 2. 156
 - 3. 144
 - 4. 132

Question Type : MCQ
Question ID : 264330137180
Option 1 ID : 264330537363
Option 2 ID : 264330537365
Option 3 ID : 264330537366
Option 4 ID : 264330537364
Status : Answered
Chosen Option : 3

Q.19 यदि एक निश्चित धनराशि साधारण ब्याज पर 3 वर्ष 6 माह में स्वयं की दोगुनी हो जाती है, तो वार्षिक ब्याज दर क्या होगी?

- Ans
- 1. 30.53 प्रतिशत
 - 2. 28.57 प्रतिशत
 - 3. 26.57 प्रतिशत
 - 4. 22.5 प्रतिशत

Question Type : MCQ
Question ID : 264330137185
Option 1 ID : 264330537385
Option 2 ID : 264330537383
Option 3 ID : 264330537386
Option 4 ID : 264330537384
Status : Answered
Chosen Option : 1

Q.20 निम्नलिखित तालिका में अलग-अलग कक्षाओं में लड़कियों और लड़कों की संख्या को दर्शाया गया है। सभी कक्षाओं में छात्रों की कुल संख्या का योग ज्ञात कीजिए।

Class	Number of girls	Number of boys
5	88	76
6	140	92
7	54	80
8	84	68
9	90	70

Class = कक्षा, Number of girls = लड़कियों की संख्या, Number of boys = लड़कों की संख्या

- Ans
- 1. 840
 - 2. 842
 - 3. 800
 - 4. 760

Question Type : **MCQ**
Question ID : **264330133791**
Option 1 ID : **264330524189**
Option 2 ID : **264330524188**
Option 3 ID : **264330524187**
Option 4 ID : **264330524190**
Status : **Not Answered**
Chosen Option : --

Section : Reasoning Ability and Problem Solving

Q.1 सात श्रमिक राहुल, राम, रमेश, सोहन, साहिल, अनिल और सोनू एक वृत्ताकार मेज के चारों ओर केंद्र की ओर मुख करके बैठे हैं (परंतु जरूरी नहीं कि वे इसी क्रम में बैठें हों)। अनिल, राम और सोनू दोनों का निकटतम पड़ोसी है। राम, साहिल के दाईं ओर से दूसरे स्थान पर है। राहुल, साहिल और सोहन दोनों का निकटतम पड़ोसी है। साहिल के बाईं ओर से दूसरे स्थान पर कौन है?

- Ans
- 1. सोहन
 - 2. रमेश
 - 3. अनिल
 - 4. सोनू

Question Type : **MCQ**
Question ID : **264330138506**
Option 1 ID : **264330542632**
Option 2 ID : **264330542631**
Option 3 ID : **264330542634**
Option 4 ID : **264330542633**
Status : **Answered**
Chosen Option : **1**

Q.2 दी गई श्रृंखला में निम्नलिखित में से कौन-सी संख्या प्रश्न चिन्ह (?) के स्थान पर आएगी?
17, 24, 32, 41, 51, ?

- Ans
- 1. 63
 - 2. 61
 - 3. 64
 - 4. 62

Question Type : MCQ

Question ID : 264330137356

Option 1 ID : 264330538053

Option 2 ID : 264330538051

Option 3 ID : 264330538054

Option 4 ID : 264330538052

Status : Answered

Chosen Option : 4

Q.3 दी गई आकृति के उस सही दर्पण प्रतिबिंब को चुनिए, जो नीचे दर्शाए गए अनुसार दर्पण को MN पर रखने पर बनेगा।

R A M B O W A J K 

- Ans
- 1. 
 - 2. 
 - 3. 
 - 4. 

Question Type : MCQ

Question ID : 264330133504

Option 1 ID : 264330523048

Option 2 ID : 264330523050

Option 3 ID : 264330523047

Option 4 ID : 264330523049

Status : Answered

Chosen Option : 1

Q.4 आठ मित्र अनिल, कमल, राम, संजय, आकाश, विवेक, राहुल और रामू एक वृत्ताकार मेज के चारों ओर केंद्र की ओर मुख करके बैठे हैं (परंतु जरूरी नहीं कि वे इसी क्रम में बैठें हों)। विवेक, अनिल के दाईं ओर से दूसरे स्थान पर है। कमल, अनिल के बाईं ओर से तीसरे स्थान पर है। रामू, विवेक के दाईं ओर से दूसरे स्थान पर है। राम, रामू के दाईं ओर से दूसरे स्थान पर है। आकाश, राहुल के दाईं ओर से दूसरे स्थान पर है। राहुल, विवेक का निकटतम पड़ोसी नहीं है। अनिल के बाईं ओर से दूसरे स्थान पर कौन है?

- Ans
- 1. विवेक
 - 2. कमल
 - 3. राम
 - 4. रामू

Question Type : MCQ

Question ID : 264330138505

Option 1 ID : 264330542630

Option 2 ID : 264330542629

Option 3 ID : 264330542627

Option 4 ID : 264330542628

Status : Answered

Chosen Option : 3

Q.5 उस विकल्प को चुनिए जो तीसरी संख्या से ठीक उसी तरह संबंधित है जिस तरह दूसरी संख्या पहली संख्या से संबंधित है।

67 : 336 :: 43 : ?

- Ans
- 1. 236
 - 2. 214
 - 3. 216
 - 4. 226

Question Type : MCQ

Question ID : 264330137358

Option 1 ID : 264330538061

Option 2 ID : 264330538060

Option 3 ID : 264330538059

Option 4 ID : 264330538062

Status : Answered

Chosen Option : 3

Q.6 किन दो चिन्हों को आपस में बदलने पर समीकरण का मान सही होगा?

$$27 \div 3 - 18 + 3 \times 2 = 18$$

- Ans
- 1. \times और $+$
 - 2. $+$ और \div
 - 3. $+$ और $-$
 - 4. \div और \times

Question Type : MCQ

Question ID : 264330138514

Option 1 ID : 264330542664

Option 2 ID : 264330542665

Option 3 ID : 264330542663

Option 4 ID : 264330542666

Status : Answered

Chosen Option : 2

Q.7 निम्नलिखित प्रश्न में कुछ कथन दिए गए हैं और उन कथनों के आधार पर कुछ निष्कर्ष दिए गए हैं। आपको यह मानना है कि दिए गए कथन सत्य हैं चाहे वे समान्यतः ज्ञात तथ्यों से अलग प्रतीत होते हों। सभी निष्कर्षों को पढ़िए और फिर निश्चय कीजिए कि दिए गए निष्कर्षों में से कौन-सा निष्कर्ष तार्किक रूप से दिए गए कथनों के अनुसार है।

कथन:

I. सभी बाइक, साइकिल हैं।

II कुछ साइकिल, टब हैं।

निष्कर्ष:

I. सभी टब, बाइक हैं।

II सभी साइकिल, टब हैं।

III सभी साइकिल, बाइक हैं।

Ans

✓ 1. कोई भी निष्कर्ष कथनों के अनुसार नहीं है

✗ 2. सभी निष्कर्ष कथनों के अनुसार हैं

✗ 3. केवल निष्कर्ष II कथनों के अनुसार है

✗ 4. दोनों निष्कर्ष I और II कथनों के अनुसार हैं

Question Type : **MCQ**

Question ID : **264330138509**

Option 1 ID : **264330542646**

Option 2 ID : **264330542645**

Option 3 ID : **264330542644**

Option 4 ID : **264330542643**

Status : **Answered**

Chosen Option : 1

Q.8 पाँच पेन P1, P2, P3, P4 और P5 के भारों (Weights) की तुलना की जाती है। P3 का भार P1 से कम है लेकिन P2 से अधिक है। P2 का भार केवल दो पेन से अधिक है। P5 का भार सबसे कम नहीं है। यदि P5 का भार 100 ग्राम है, तो P1 का भार कितना हो सकता है?

Ans

✗ 1. 96 ग्राम

✗ 2. 90 ग्राम

✗ 3. 95 ग्राम

✓ 4. 108 ग्राम

Question Type : **MCQ**

Question ID : **264330138507**

Option 1 ID : **264330542637**

Option 2 ID : **264330542636**

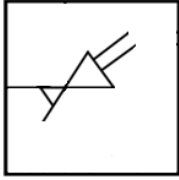
Option 3 ID : **264330542635**

Option 4 ID : **264330542638**

Status : **Answered**

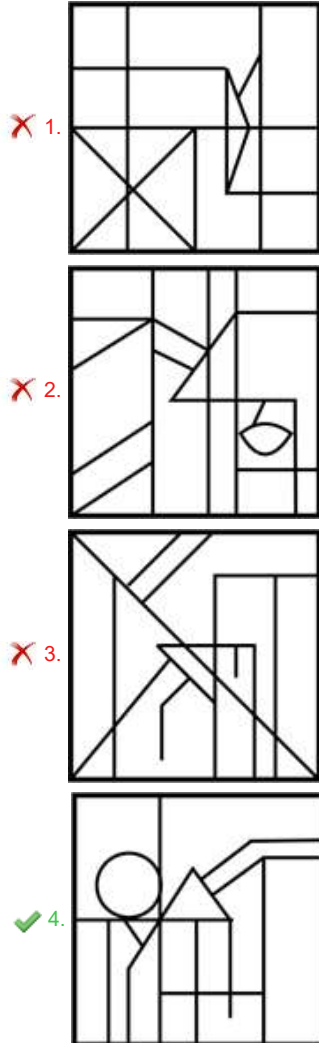
Chosen Option : 4

Q.9 उस विकल्प आकृति को चुनिए जिसमें दी गई आकृति (X) इसके भाग के रूप में निहित है।
(घूर्णन की अनुमति नहीं है)।



(X)

Ans



Question Type : MCQ

Question ID : 264330133503

Option 1 ID : 264330523043

Option 2 ID : 264330523044

Option 3 ID : 264330523045

Option 4 ID : 264330523046

Status : Answered

Chosen Option : 4

Q.10 (::) के बाईं ओर दिए गए शब्द आपस में किसी तर्क/नियम/संबंध द्वारा संबंधित हैं। समान तर्क/नियम/संबंध के आधार पर दिए गए विकल्पों में से (::) के दाईं ओर लुप्त शब्द/शब्द युग्म को चुनिए।

रिंक (Rink) : स्केटिंग (Skating) :: पिच (Pitch) : ?

- Ans
- ✓ 1. क्रिकेट
 - ✗ 2. कुश्ती
 - ✗ 3. हॉकी
 - ✗ 4. फुटबॉल

Question Type : MCQ

Question ID : 264330138500

Option 1 ID : 264330542609

Option 2 ID : 264330542607

Option 3 ID : 264330542610

Option 4 ID : 264330542608

Status : Answered

Chosen Option : 1

Q.11 एक निश्चित कूट भाषा में, 'REPORT' को '18, 5, 16, 15, 18, 20' लिखा जाता है, 'BEYOND' को '2, 5, 25, 15, 14, 4' लिखा जाता है। उस कूट भाषा में 'MONEY' को कैसे लिखा जाएगा?

- Ans
- ✗ 1. 13, 15, 12, 6, 25
 - ✗ 2. 13, 15, 14, 6, 25
 - ✓ 3. 13, 15, 14, 5, 25
 - ✗ 4. 15, 13, 12, 6, 25

Question Type : MCQ

Question ID : 264330138461

Option 1 ID : 264330542452

Option 2 ID : 264330542454

Option 3 ID : 264330542451

Option 4 ID : 264330542453

Status : Answered

Chosen Option : 3

Q.12 (::) के बाईं ओर दिए गए शब्द आपस में किसी तर्क/नियम/संबंध द्वारा संबंधित हैं। समान तर्क/नियम/संबंध के आधार पर दिए गए विकल्पों में से (::) के दाईं ओर लुप्त शब्द/शब्द युग्म को चुनिए।

आमलेट (Omelette) : अंडा :: ?

- Ans
- ✗ 1. डामर : सड़क
 - ✗ 2. अयस्क : धातु
 - ✗ 3. बीज : तेल
 - ✓ 4. फर्नीचर : लकड़ी

Question Type : MCQ

Question ID : 264330138501

Option 1 ID : 264330542612

Option 2 ID : 264330542614

Option 3 ID : 264330542611

Option 4 ID : 264330542613

Status : Answered

Chosen Option : 4

Q.13 एक निश्चित कूट भाषा में, 'PIECES' को 'PKBCGP' लिखा जाता है। उस कूट भाषा में 'OBTAIN' को कैसे लिखा जाएगा?

- Ans
- 1. ODQAJK
 - 2. ODQALL
 - 3. ODQAKK
 - 4. ODQBKK

Question Type : MCQ

Question ID : 264330138546

Option 1 ID : 264330542792

Option 2 ID : 264330542791

Option 3 ID : 264330542794

Option 4 ID : 264330542793

Status : Answered

Chosen Option : 3

Q.14 एक श्रृंखला दी गई है जिसमें एक पद लुप्त है। दिए गए विकल्पों में से उस सही विकल्प को चुनिए जो श्रृंखला को पूरा करेगा।

FOC, IMF, LKI, OIL, ?

- Ans
- 1. SGO
 - 2. SHO
 - 3. RHO
 - 4. RGO

Question Type : MCQ

Question ID : 264330138498

Option 1 ID : 264330542602

Option 2 ID : 264330542599

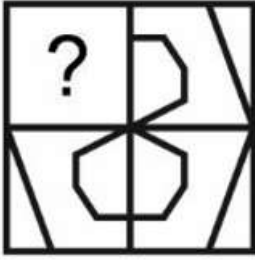
Option 3 ID : 264330542601

Option 4 ID : 264330542600

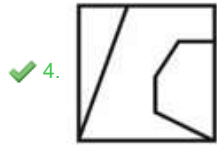
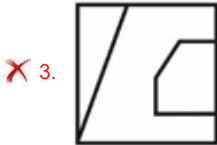
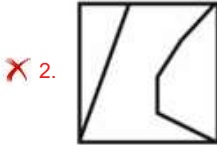
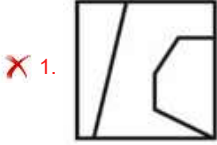
Status : Answered

Chosen Option : 4

Q.15 कौन-सी उत्तर आकृति प्रश्न आकृति में दिए गए पैटर्न को पूरा करेगी?



Ans



Question Type : MCQ

Question ID : 264330138518

Option 1 ID : 264330542682

Option 2 ID : 264330542680

Option 3 ID : 264330542681

Option 4 ID : 264330542679

Status : Answered

Chosen Option : 4

Q.16 निम्नलिखित प्रश्न में, दी गई श्रृंखला में लुप्त संख्या को चुनिए ।

30, 60, 180, 720, 3600, ?

Ans ✗ 1. 25000

✓ 2. 21600

✗ 3. 14400

✗ 4. 12000

Question Type : MCQ

Question ID : 264330138511

Option 1 ID : 264330542653

Option 2 ID : 264330542651

Option 3 ID : 264330542652

Option 4 ID : 264330542654

Status : Answered

Chosen Option : 2

Q.17 एक निश्चित कूट भाषा में, 'HEAVY' को 'EBXSV' लिखा जाता है। उस कूट भाषा में 'LABEL' को कैसे लिखा जाएगा?

- Ans
- 1. JXYBJ
 - 2. IXZBI
 - 3. IXYBI
 - 4. IXYBJ

Question Type : MCQ

Question ID : 264330135597

Option 1 ID : 264330531288

Option 2 ID : 264330531287

Option 3 ID : 264330531289

Option 4 ID : 264330531290

Status : Answered

Chosen Option : 3

Q.18 निम्नलिखित प्रश्न में कुछ कथन दिए गए हैं और उन कथनों के आधार पर कुछ निष्कर्ष दिए गए हैं। आपको यह मानना है कि दिए गए कथन सत्य हैं चाहे वे समान्यतः ज्ञात तथ्यों से अलग प्रतीत होते हों। सभी निष्कर्षों को पढ़िए और फिर निश्चय कीजिए कि दिए गए निष्कर्षों में से कौन-सा निष्कर्ष तार्किक रूप से दिए गए कथनों के अनुसार है।

कथन:

- I. कुछ पुरुष, लड़कियाँ हैं।
- II. कुछ ताकतवर, लड़कियाँ हैं।

निष्कर्ष:

- I. कुछ ताकतवर, पुरुष नहीं हैं।
- II. कुछ लड़कियाँ, पुरुष हैं।

- Ans
- 1. दोनों निष्कर्ष I और II कथनों के अनुसार हैं
 - 2. कोई भी निष्कर्ष कथनों के अनुसार नहीं है
 - 3. केवल निष्कर्ष I कथनों के अनुसार है
 - 4. केवल निष्कर्ष II कथनों के अनुसार है

Question Type : MCQ

Question ID : 264330138508

Option 1 ID : 264330542641

Option 2 ID : 264330542642

Option 3 ID : 264330542639

Option 4 ID : 264330542640

Status : Answered

Chosen Option : 4

Q.19 दी गई दो संख्याओं को आपस में बदलने पर, निम्नलिखित में से कौनसा समीकरण सही होगा?

5 और 4

I. $4 + 8 \times 5 - 7 \div 1 = 30$

II. $5 \times 3 - 4 + 6 \div 2 = 11$

Ans 1. केवल II

2. केवल I

3. I और II दोनों

4. न तो I और न ही II

Question Type : MCQ

Question ID : 264330138557

Option 1 ID : 264330542836

Option 2 ID : 264330542835

Option 3 ID : 264330542837

Option 4 ID : 264330542838

Status : Answered

Chosen Option : 4

Q.20 उस विकल्प को चुनिए जिसमें समुच्चय की संख्याएँ वही संबंध साझा करती हैं जो दिए गए समुच्चय में संख्याओं द्वारा साझा किया जाता है। (ध्यान दें: संख्याओं को उनके घटक अंकों में अलग-अलग किए बिना, पूर्ण संख्याओं पर संक्रियाएँ की जानी चाहिए। उदा. 13 - 13 पर संक्रियाएँ जैसे 13 को जोड़ना /घटाना /गुणा करना आदि किया जा सकता है। 13 को 1 और 3 में अलग-अलग करने की और फिर 1 और 3 पर गणितीय संक्रियाएँ करने की अनुमति नहीं है)

(64, 8, 16)

(40, 20, 4)

Ans 1. (54, 9, 14)

2. (100, 50, 8)

3. (120, 100, 5)

4. (56, 14, 8)

Question Type : MCQ

Question ID : 264330138513

Option 1 ID : 264330542662

Option 2 ID : 264330542659

Option 3 ID : 264330542661

Option 4 ID : 264330542660

Status : Answered

Chosen Option : 4

Section : General Awareness

Q.1 भारत के तेलंगाना का निम्नलिखित में से कौन-सा पारंपरिक हिंदू त्योहार देवी महाकाली को समर्पित है?

- Ans
- 1. उगादि (Ugadi)
 - 2. लोहड़ी (Lohri)
 - 3. देहिंग पटकाई (Dehing Patkai)
 - 4. बोनालु (Bonalu)

Question Type : MCQ
Question ID : 264330133959
Option 1 ID : 264330524861
Option 2 ID : 264330524859
Option 3 ID : 264330524862
Option 4 ID : 264330524860
Status : Answered
Chosen Option : 1

Q.2 निम्नलिखित में से कौन पीएम-केयर्स फंड के ट्रस्टियों में से एक है?

- Ans
- 1. श्री रतन एन. टाटा
 - 2. श्री गौतम अडानी
 - 3. श्री अज़ीम प्रेमजी
 - 4. श्री मुकेश अंबानी

Question Type : MCQ
Question ID : 264330138279
Option 1 ID : 264330541726
Option 2 ID : 264330541724
Option 3 ID : 264330541725
Option 4 ID : 264330541723
Status : Answered
Chosen Option : 1

Q.3 निम्नलिखित में से कौन-सी जैविक खेती की एक विशेषता 'नहीं' है?

- Ans
- 1. जैविक उर्वरकों का उपयोग
 - 2. मिश्रित कृषि का कोई उपयोग नहीं
 - 3. रसायनों का न्यूनतम या कोई उपयोग नहीं
 - 4. कृषि अपशिष्ट का पुनर्चक्रण

Question Type : MCQ
Question ID : 264330138284
Option 1 ID : 264330541744
Option 2 ID : 264330541746
Option 3 ID : 264330541745
Option 4 ID : 264330541743
Status : Not Attempted and Marked For Review
Chosen Option : --

Q.4 कुमारी कमला को वर्ष 1970 में पद्म भूषण से सम्मानित किया गया था। उन्हें किस शास्त्रीय नृत्य शैली के लिए जाना जाता था?

- Ans
- ✓ 1. भरतनाट्यम
 - ✗ 2. कथक
 - ✗ 3. मोहिनीअट्टम
 - ✗ 4. मणिपुरी

Question Type : MCQ
Question ID : 264330138328
Option 1 ID : 264330541922
Option 2 ID : 264330541919
Option 3 ID : 264330541921
Option 4 ID : 264330541920
Status : Answered
Chosen Option : 3

Q.5 निम्नलिखित में से कौन-सी किताब मुल्क राज आनंद द्वारा लिखी गई है?

- Ans
- ✗ 1. द इंग्लिश टीचर (The English Teacher)
 - ✗ 2. अ सूटेबल बॉय (A Suitable Boy)
 - ✓ 3. अनटचेबल (Untouchable)
 - ✗ 4. द ब्लू अम्ब्रेला (The Blue Umbrella)

Question Type : MCQ
Question ID : 264330138326
Option 1 ID : 264330541913
Option 2 ID : 264330541911
Option 3 ID : 264330541912
Option 4 ID : 264330541914
Status : Answered
Chosen Option : 2

Q.6 मेरठ के सिपाही _____ को मुगल सम्राट बहादुर शाह से मिलने के लिए लाल किले के फाटक पर पहुँचे।

- Ans
- ✗ 1. 11 मार्च, 1857
 - ✗ 2. 10 मार्च, 1857
 - ✗ 3. 10 मई, 1857
 - ✓ 4. 11 मई, 1857

Question Type : MCQ
Question ID : 264330138344
Option 1 ID : 264330541986
Option 2 ID : 264330541985
Option 3 ID : 264330541983
Option 4 ID : 264330541984
Status : Answered
Chosen Option : 4

Q.7 भारत में सामाजिक समूहों के संबंध में, PVTGs का अर्थ _____ है।

Ans 1.

पटिकुलरली वेरियस ट्राइबल ग्रुप्स (Particularly Various Tribal Groups)

2.

पीरियोडिक वल्लनेबल ट्राइबल ग्रुप्स (Periodic Vulnerable Tribal Groups)

3.

पटिकुलरली वल्लनेबल ट्राइबल ग्रुप्स (Particularly Vulnerable Tribal Groups)

4.

पीरियोडिक वेरियस ट्राइबल ग्रुप्स (Periodic Various Tribal Groups)

Question Type : MCQ

Question ID : 264330133901

Option 1 ID : 264330524629

Option 2 ID : 264330524628

Option 3 ID : 264330524627

Option 4 ID : 264330524630

Status : Answered

Chosen Option : 1

Q.8 बैंकों को अपने पास तरल परिसंपत्तियों के रूप में कुछ आरक्षित मुद्रा रखना आवश्यक होता है। इसे _____ कहा जाता है।

Ans 1. सांविधिक चलनिधि अनुपात

2. सीमांत स्थिरता योजना

3. वैध जमा अनुपात

4. खुली बाज़ार कार्यवाही

Question Type : MCQ

Question ID : 264330138331

Option 1 ID : 264330541932

Option 2 ID : 264330541931

Option 3 ID : 264330541933

Option 4 ID : 264330541934

Status : Answered

Chosen Option : 4

Q.9 निम्नलिखित में से किस अनुच्छेद में, "अंतःकरण की और धर्म की अगाध रूप से मानने, आचरण और प्रचार करने की स्वतंत्रता" का उल्लेख है?

Ans 1. अनुच्छेद 27

2. अनुच्छेद 25

3. अनुच्छेद 26

4. अनुच्छेद 28

Question Type : MCQ

Question ID : 264330138283

Option 1 ID : 264330541742

Option 2 ID : 264330541739

Option 3 ID : 264330541740

Option 4 ID : 264330541741

Status : Answered

Chosen Option : 1

Q.10 एक नाटक में, हेमा ने कहा "स्वराज मेरा जन्मसिद्ध अधिकार है और मैं इसे लेकर रहूंगी।" यह नारा किस भारतीय स्वतंत्रता सेनानी ने दिया था?

- Ans
- 1. महात्मा गांधी
 - 2. लोकमान्य बाल गंगाधर तिलक
 - 3. अंबिका चरण मजूमदार
 - 4. भगत सिंह

Question Type : MCQ
Question ID : 264330133972
Option 1 ID : 264330524911
Option 2 ID : 264330524912
Option 3 ID : 264330524914
Option 4 ID : 264330524913
Status : Answered
Chosen Option : 2

Q.11 वे बस्तियाँ जिनमें मकान एक दूसरे के समीप बनाए जाते हैं, _____ कहलाती हैं।

- Ans
- 1. रैखिक बस्तियाँ
 - 2. संहत बस्तियाँ
 - 3. तारे के आकार की बस्तियाँ
 - 4. प्रकीर्ण बस्तियाँ

Question Type : MCQ
Question ID : 264330138669
Option 1 ID : 264330543284
Option 2 ID : 264330543283
Option 3 ID : 264330543286
Option 4 ID : 264330543285
Status : Answered
Chosen Option : 2

Q.12 विश्व में कॉफी के उत्पादन में अग्रणी देश कौन-सा है?

- Ans
- 1. चीन
 - 2. ब्राज़ील
 - 3. अमेरिका
 - 4. भारत

Question Type : MCQ
Question ID : 264330138338
Option 1 ID : 264330541959
Option 2 ID : 264330541962
Option 3 ID : 264330541961
Option 4 ID : 264330541960
Status : Answered
Chosen Option : 2

Q.13 निम्नलिखित में से किसने जयपुर शहर की स्थापना की थी?

- Ans
- 1. राजा मानसिंह
 - 2. सवाई जयसिंह द्वितीय
 - 3. राजा भारमल
 - 4. पृथ्वीराज चौहान

Question Type : MCQ
Question ID : 264330138323
Option 1 ID : 264330541899
Option 2 ID : 264330541901
Option 3 ID : 264330541900
Option 4 ID : 264330541902
Status : Answered
Chosen Option : 2

Q.14 भागीरथी और अलकनंदा का संगम _____ में होता है।

- Ans
- 1. रुद्रप्रयाग
 - 2. नंदप्रयाग
 - 3. विष्णुप्रयाग
 - 4. देवप्रयाग

Question Type : MCQ
Question ID : 264330138289
Option 1 ID : 264330541765
Option 2 ID : 264330541766
Option 3 ID : 264330541763
Option 4 ID : 264330541764
Status : Answered
Chosen Option : 4

Q.15 शास्त्रीय नृत्य कथक की उत्पत्ति _____ में हुई थी।

- Ans
- 1. असम
 - 2. उड़ीसा
 - 3. उत्तरप्रदेश
 - 4. राजस्थान

Question Type : MCQ
Question ID : 264330138271
Option 1 ID : 264330541692
Option 2 ID : 264330541693
Option 3 ID : 264330541694
Option 4 ID : 264330541691
Status : Answered
Chosen Option : 3

Q.16 निम्नलिखित में से कौनसे देश 'I2U2' शिखर सम्मेलन का हिस्सा हैं?

- Ans
- 1. भारत, इज़राइल, संयुक्त अरब अमीरात और युगांडा
 - 2. इराक, ईरान, संयुक्त अरब अमीरात और अमेरिका
 - 3. भारत, इज़राइल, संयुक्त अरब अमीरात और अमेरिका
 - 4. भारत, ईरान, संयुक्त अरब अमीरात और अमेरिका

Question Type : MCQ
Question ID : 264330138280
Option 1 ID : 264330541728
Option 2 ID : 264330541727
Option 3 ID : 264330541729
Option 4 ID : 264330541730
Status : Answered
Chosen Option : 4

Q.17 निम्नलिखित में से किस भारतीय खिलाड़ी ने क्रिकेट विश्व कप 1983 में अधिकतम रन बनाए हैं?

- Ans
- 1. एस.एम. पाटिल
 - 2. के. श्रीकांत
 - 3. एस.एम. गावस्कर
 - 4. कपिल देव

Question Type : MCQ
Question ID : 264330138274
Option 1 ID : 264330541706
Option 2 ID : 264330541704
Option 3 ID : 264330541703
Option 4 ID : 264330541705
Status : Answered
Chosen Option : 4

Q.18 यूनानियों (Greeks) द्वारा किस मौर्य शासक को अमित्रघात (Amitrochates) कहा जाता था?

- Ans
- 1. कनिष्क
 - 2. समुद्रगुप्त
 - 3. बिंदुसार
 - 4. चंद्रगुप्त प्रथम

Question Type : MCQ
Question ID : 264330133969
Option 1 ID : 264330524901
Option 2 ID : 264330524900
Option 3 ID : 264330524899
Option 4 ID : 264330524902
Status : Answered
Chosen Option : 3

Q.19 निम्नलिखित में से कौन वर्ष 1996 में स्पेन के मेनोर्का (Menorca) में अंडर-10 वर्ल्ड चेस चैम्पियनशिप जीतने वाला पहला भारतीय है?

- Ans
- 1. विदित संतोष गुजराती
 - 2. विश्वनाथन आनंद
 - 3. पी हरिकृष्णा
 - 4. कोनेरू हम्पी

Question Type : MCQ
Question ID : 264330137084
Option 1 ID : 264330536981
Option 2 ID : 264330536979
Option 3 ID : 264330536980
Option 4 ID : 264330536982
Status : Answered
Chosen Option : 2

Q.20 निम्नलिखित में से कौन-सा सौर मंडल का सबसे ठंडा ग्रह है?

- Ans
- 1. शनि
 - 2. नेपच्यून
 - 3. मंगल
 - 4. यूरेनस

Question Type : MCQ
Question ID : 264330137069
Option 1 ID : 264330536919
Option 2 ID : 264330536921
Option 3 ID : 264330536922
Option 4 ID : 264330536920
Status : Answered
Chosen Option : 4

Q.21 विदुषी शरण रानी किस वाद्य यंत्र की प्रसिद्ध वादक हैं?

- Ans
- 1. सरोद
 - 2. सितार
 - 3. बाँसुरी
 - 4. तबला

Question Type : MCQ
Question ID : 264330138277
Option 1 ID : 264330541716
Option 2 ID : 264330541717
Option 3 ID : 264330541718
Option 4 ID : 264330541715
Status : Answered
Chosen Option : 1

Q.22 निम्नलिखित में से कौन-सा एक क्षार धातु नहीं है और आवर्त सारणी के प्रथम वर्ग के अंतर्गत नहीं आता?

- Ans
- 1. सोडियम
 - 2. पोटैशियम
 - 3. लीथियम
 - 4. कैल्सियम

Question Type : MCQ
Question ID : 264330137066
Option 1 ID : 264330536907
Option 2 ID : 264330536909
Option 3 ID : 264330536910
Option 4 ID : 264330536908
Status : Answered
Chosen Option : 4

Q.23 केरल के मध्य और उत्तरी भागों और तमिलनाडु के कोंगु (Kongu) क्षेत्र को नियंत्रित करने वाले चेर राजवंश का प्रतीक _____ था।

- Ans
- 1. पक्षी
 - 2. धनुष और बाण
 - 3. मछली
 - 4. बाघ

Question Type : MCQ
Question ID : 264330137075
Option 1 ID : 264330536945
Option 2 ID : 264330536944
Option 3 ID : 264330536946
Option 4 ID : 264330536943
Status : Answered
Chosen Option : 2

Q.24 भारतीय न्यायिक प्रणाली में, PIL का अर्थ _____ है।

- Ans
- 1. पीरियोडिक इंडिविजुअल लिटिगेशन (Periodic Individual Litigation)
 - 2. पब्लिक इंटरेस्ट लिटिगेशन (Public Interest Litigation)
 - 3. पीरियोडिक इंटरेस्ट लिटिगेशन (Periodic Interest Litigation)
 - 4. प्राइवेट इंटरेस्ट लाइसेंस (Private Interest License)

Question Type : MCQ
Question ID : 264330138332
Option 1 ID : 264330541937
Option 2 ID : 264330541936
Option 3 ID : 264330541935
Option 4 ID : 264330541938
Status : Answered
Chosen Option : 2

Q.25 सोडियम हाइड्रॉक्साइड निम्नलिखित में से किस सामान्य पदार्थ का रासायनिक नाम है?

- Ans
- 1. दाहक सोडा (Caustic Soda)
 - 2. चाक (Chalk)
 - 3. विरंजक चूर्ण (Bleaching Powder)
 - 4. सुहागा (Borax)

Question Type : MCQ

Question ID : 264330137068

Option 1 ID : 264330536915

Option 2 ID : 264330536917

Option 3 ID : 264330536916

Option 4 ID : 264330536918

Status : Answered

Chosen Option : 4

Section : English Language and Comprehension

Q.1 Select the most appropriate synonym of the given word.

Subtle

- Ans
- 1. Corrupt
 - 2. Wrong
 - 3. Homely
 - 4. Exquisite

Question Type : MCQ

Question ID : 264330136655

Option 1 ID : 264330535340

Option 2 ID : 264330535342

Option 3 ID : 264330535339

Option 4 ID : 264330535341

Status : Answered

Chosen Option : 1

Q.2 Select the most appropriate antonym of the given word.

Calm

- Ans
- 1. Placid
 - 2. Low-key
 - 3. Frenzy
 - 4. Harmonious

Question Type : MCQ

Question ID : 264330136709

Option 1 ID : 264330535549

Option 2 ID : 264330535548

Option 3 ID : 264330535550

Option 4 ID : 264330535547

Status : Answered

Chosen Option : 3

Q.3 A sentence has been given with a blank to be filled with an appropriate option. Choose the correct alternative.

I went to the lake and _____ some of its water in my metallic cup.

- Ans
- 1. drank
 - 2. drunken
 - 3. drinking
 - 4. drunk

Question Type : **MCQ**
Question ID : **264330134457**
Option 1 ID : **264330526800**
Option 2 ID : **264330526802**
Option 3 ID : **264330526799**
Option 4 ID : **264330526801**
Status : **Answered**
Chosen Option : **1**

Q.4 Select the most appropriate meaning of the given idiom.

Gut Feeling

- Ans
- 1. Doing things recklessly
 - 2. Very excited and/or joyful, especially when in love
 - 3. A personal intuition you get, especially when feel something may not be right
 - 4. To have a dispute with someone

Question Type : **MCQ**
Question ID : **264330135787**
Option 1 ID : **264330532024**
Option 2 ID : **264330532026**
Option 3 ID : **264330532023**
Option 4 ID : **264330532025**
Status : **Answered**
Chosen Option : **2**

Q.5 Select the most appropriate option to substitute the bracketed segment in the given sentence. If there is no need to substitute it, select 'no substitution required'.

(The transit of the Planet of Love happen in pairs), eight years apart every century.

- Ans
- 1. No substitution required
 - 2. The transits of the Planet of Love happens at pairs
 - 3. The transit of Planet of Love happen in pairs
 - 4. The transits of the Planet of Love happen in pairs

Question Type : **MCQ**
Question ID : **264330136670**
Option 1 ID : **264330535402**
Option 2 ID : **264330535399**
Option 3 ID : **264330535400**
Option 4 ID : **264330535401**
Status : **Answered**
Chosen Option : **4**

Q.6 Find the part of the given sentence that has an error in it. If there is no error, choose 'No error'.

I am not going to help you of this science project.

- Ans**
- 1. No error
 - 2. this science project.
 - 3. I am not going to
 - 4. help you of

Question Type : **MCQ**
Question ID : **264330135256**
Option 1 ID : **264330529946**
Option 2 ID : **264330529945**
Option 3 ID : **264330529943**
Option 4 ID : **264330529944**
Status : **Answered**
Chosen Option : **4**

Q.7 Identify the segment that contains a grammatical error. If there is no error, select 'No error'.

George handing the / hairpin to Ron, / a moment later.

- Ans**
- 1. George handing the
 - 2. hairpin to Ron,
 - 3. a moment later.
 - 4. No error

Question Type : **MCQ**
Question ID : **264330136641**
Option 1 ID : **264330535287**
Option 2 ID : **264330535288**
Option 3 ID : **264330535289**
Option 4 ID : **264330535290**
Status : **Answered**
Chosen Option : **3**

Q.8 Choose the word that is correctly spelt.

- Ans**
- 1. Liasion
 - 2. Indispensible
 - 3. Occurred
 - 4. Privilige

Question Type : **MCQ**
Question ID : **264330136661**
Option 1 ID : **264330535365**
Option 2 ID : **264330535366**
Option 3 ID : **264330535363**
Option 4 ID : **264330535364**
Status : **Answered**
Chosen Option : **1**

Q.9 Select the most appropriate word for the given group of words.

The medieval forerunner of chemistry

- Ans**
- 1. Anchor
 - 2. Alchemy
 - 3. Anthropologist
 - 4. Curator

Question Type : **MCQ**
Question ID : **264330135781**
Option 1 ID : **264330532000**
Option 2 ID : **264330532001**
Option 3 ID : **264330532002**
Option 4 ID : **264330531999**
Status : **Answered**
Chosen Option : **2**

Q.10 Choose the sentence with no spelling error.

- Ans**
- 1. He supposed he should be thankful.
 - 2. He supposed he shuld be thankful.
 - 3. He supposed he should be thankful.
 - 4. He suposed he should be thankful.

Question Type : **MCQ**
Question ID : **264330134447**
Option 1 ID : **264330526759**
Option 2 ID : **264330526761**
Option 3 ID : **264330526762**
Option 4 ID : **264330526760**
Status : **Answered**
Chosen Option : **1**

Q.11 Select the word from the options which is exactly opposite in meaning to the bracketed word given in the sentence below.

Our financial situation had become (precarious).

- Ans**
- 1. Noisy
 - 2. Insecure
 - 3. Delicate
 - 4. Stable

Question Type : **MCQ**
Question ID : **264330136658**
Option 1 ID : **264330535354**
Option 2 ID : **264330535353**
Option 3 ID : **264330535351**
Option 4 ID : **264330535352**
Status : **Answered**
Chosen Option : **3**

Q.12 Select the most appropriate option to fill in the blank.
Fear evolved over millions of years to protect us from _____.

- Ans
- 1. confidence
 - 2. danger
 - 3. birth
 - 4. courage

Question Type : **MCQ**
Question ID : **264330134448**
Option 1 ID : **264330526766**
Option 2 ID : **264330526763**
Option 3 ID : **264330526765**
Option 4 ID : **264330526764**
Status : **Answered**
Chosen Option : **2**

Q.13 Select the most appropriate word for the given group of words.

A long wandering or voyage usually marked by many changes of fortune

- Ans
- 1. Odyssey
 - 2. Ode
 - 3. Trip
 - 4. Pilgrimage

Question Type : **MCQ**
Question ID : **264330136654**
Option 1 ID : **264330535335**
Option 2 ID : **264330535337**
Option 3 ID : **264330535336**
Option 4 ID : **264330535338**
Status : **Answered**
Chosen Option : **4**

Q.14 Fill in the blank with the most appropriate option.

I watched him with the excitement of _____ him to do anything at any time.

- Ans
- 1. expecting
 - 2. accepting
 - 3. lacking
 - 4. excepting

Question Type : **MCQ**
Question ID : **264330136645**
Option 1 ID : **264330535303**
Option 2 ID : **264330535304**
Option 3 ID : **264330535306**
Option 4 ID : **264330535305**
Status : **Answered**
Chosen Option : **4**

Q.15 The statement below has been given with bracketed text. Select the option with correct idiom for the bracketed text.

Although Shagun was competently doing the project on her own, Pranav couldn't stop himself from (giving her unnecessary advice).

- Ans**
- 1. devil's advocate
 - 2. being a backseat driver
 - 3. a bitter pill to swallow
 - 4. cutting the mustard

Question Type : **MCQ**
Question ID : **264330136660**
Option 1 ID : **264330535362**
Option 2 ID : **264330535360**
Option 3 ID : **264330535359**
Option 4 ID : **264330535361**
Status : **Answered**
Chosen Option : **1**

Q.16 Improve the underlined part of the sentence. Choose 'No improvement' as an answer if the sentence is grammatically correct.

The cat sits in the window and staring at the squirrel.

- Ans**
- 1. stared at
 - 2. stare on
 - 3. No improvement
 - 4. stares at

Question Type : **MCQ**
Question ID : **264330136773**
Option 1 ID : **264330535797**
Option 2 ID : **264330535795**
Option 3 ID : **264330535798**
Option 4 ID : **264330535796**
Status : **Answered**
Chosen Option : **3**

Q.17 Fill in the blank with the most appropriate option.

The plan began to _____ once we all met to discuss it.

- Ans**
- 1. gel
 - 2. gale
 - 3. jail
 - 4. jell

Question Type : **MCQ**
Question ID : **264330136664**
Option 1 ID : **264330535375**
Option 2 ID : **264330535378**
Option 3 ID : **264330535376**
Option 4 ID : **264330535377**
Status : **Answered**
Chosen Option : **2**

Q.18 Improve the underlined part of the sentence. Choose 'No improvement' as an answer if the sentence is grammatically correct.

I'm recovering from the flu, and I still is feeling weak.

- Ans**
- 1. felt weakest
 - 2. No improvement
 - 3. feel weak
 - 4. feels weakened

Question Type : **MCQ**
Question ID : **264330135207**
Option 1 ID : **264330529755**
Option 2 ID : **264330529758**
Option 3 ID : **264330529756**
Option 4 ID : **264330529757**
Status : **Answered**
Chosen Option : **2**

Q.19 Choose the word that means the same as the given word.
Consensus

- Ans**
- 1. Censure
 - 2. Census
 - 3. Agreement
 - 4. Puck

Question Type : **MCQ**
Question ID : **264330134467**
Option 1 ID : **264330526838**
Option 2 ID : **264330526837**
Option 3 ID : **264330526835**
Option 4 ID : **264330526836**
Status : **Answered**
Chosen Option : **2**

Q.20 Find the part of the given sentence that has an error in it. If there is no error, choose 'No error'.

Humans have rapidly changing the balance of gases in the atmosphere.

- Ans**
- 1. changing the balance of
 - 2. gases in the atmosphere.
 - 3. No error
 - 4. Humans have rapidly

Question Type : **MCQ**
Question ID : **264330136770**
Option 1 ID : **264330535784**
Option 2 ID : **264330535785**
Option 3 ID : **264330535786**
Option 4 ID : **264330535783**
Status : **Answered**
Chosen Option : **4**

Comprehension:

In the following passage some words have been deleted. Fill in the blanks with the help of the alternatives given. Select the most appropriate option for each number.

I was surprised—(1) _____ at the news that my father spared me any thought, and second at my brother's compliment, (2) _____ it was backhanded. Dhri (3) _____ commented on my looks; nor did he encourage me to comment on his. Such useless (4) _____, he believed, made people vain. Was this another (5) _____ of change?

SubQuestion No : 21

Q.21 Select the most appropriate option to fill in the blank No. 1.

- Ans**
- 1. earlier
 - 2. in the beginning
 - 3. first
 - 4. second

Question Type : **MCQ**

Question ID : **264330136700**

Option 1 ID : **264330535513**

Option 2 ID : **264330535514**

Option 3 ID : **264330535512**

Option 4 ID : **264330535511**

Status : **Answered**

Chosen Option : **3**

Comprehension:

In the following passage some words have been deleted. Fill in the blanks with the help of the alternatives given. Select the most appropriate option for each number.

I was surprised—(1) _____ at the news that my father spared me any thought, and second at my brother's compliment, (2) _____ it was backhanded. Dhri (3) _____ commented on my looks; nor did he encourage me to comment on his. Such useless (4) _____, he believed, made people vain. Was this another (5) _____ of change?

SubQuestion No : 22

Q.22 Select the most appropriate option to fill in the blank No. 2.

- Ans**
- 1. all
 - 2. through
 - 3. though
 - 4. afterwards

Question Type : **MCQ**

Question ID : **264330136701**

Option 1 ID : **264330535517**

Option 2 ID : **264330535516**

Option 3 ID : **264330535518**

Option 4 ID : **264330535515**

Status : **Answered**

Chosen Option : **1**

Comprehension:

In the following passage some words have been deleted. Fill in the blanks with the help of the alternatives given. Select the most appropriate option for each number.

I was surprised— (1) _____ at the news that my father spared me any thought, and second at my brother's compliment, (2) _____ it was backhanded. Dhri (3) _____ commented on my looks; nor did he encourage me to comment on his. Such useless (4) _____, he believed, made people vain. Was this another (5) _____ of change?

SubQuestion No : 23

Q.23 Select the most appropriate option to fill in the blank No. 3.

- Ans**
- 1. ever
 - 2. always
 - 3. never
 - 4. forever

Question Type : **MCQ**

Question ID : **264330136702**

Option 1 ID : **264330535520**

Option 2 ID : **264330535521**

Option 3 ID : **264330535519**

Option 4 ID : **264330535522**

Status : **Answered**

Chosen Option : **2**

Comprehension:

In the following passage some words have been deleted. Fill in the blanks with the help of the alternatives given. Select the most appropriate option for each number.

I was surprised— (1) _____ at the news that my father spared me any thought, and second at my brother's compliment, (2) _____ it was backhanded. Dhri (3) _____ commented on my looks; nor did he encourage me to comment on his. Such useless (4) _____, he believed, made people vain. Was this another (5) _____ of change?

SubQuestion No : 24

Q.24 Select the most appropriate option to fill in the blank No. 4.

- Ans**
- 1. disclosure
 - 2. talk
 - 3. ode
 - 4. babble

Question Type : **MCQ**

Question ID : **264330136703**

Option 1 ID : **264330535523**

Option 2 ID : **264330535525**

Option 3 ID : **264330535524**

Option 4 ID : **264330535526**

Status : **Not Answered**

Chosen Option : **--**

Comprehension:

In the following passage some words have been deleted. Fill in the blanks with the help of the alternatives given. Select the most appropriate option for each number.

I was surprised— (1) _____ at the news that my father spared me any thought, and second at my brother's compliment, (2) _____ it was backhanded. Dhri (3) _____ commented on my looks; nor did he encourage me to comment on his. Such useless (4) _____, he believed, made people vain. Was this another (5) _____ of change?

SubQuestion No : 25

Q.25 Select the most appropriate option to fill in the blank No. 5.

- Ans**
- 1. signature
 - 2. symbolic
 - 3. light
 - 4. sign

Question Type : **MCQ**

Question ID : **264330136704**

Option 1 ID : **264330535527**

Option 2 ID : **264330535529**

Option 3 ID : **264330535530**

Option 4 ID : **264330535528**

Status : **Not Answered**

Chosen Option : --

Multi Tasking Non Technical Staff and Havaladar CBIC and CBN Examination 2022

Roll Number	KD Job Updates
Candidate Name	KD Job Updates
Venue Name	iON Digital Zone iDZ Karhi Road Amoudha
Exam Date	17/05/2023
Exam Time	9:00 AM - 10:30 AM
Subject	MTS Non Tech Havaladar CBIC and CBN Examination 2022

Section : Numerical and Mathematical Ability

Q.1 $44 \div 11 \times 4 + 5 \times 8 \div 4 - 7 \times 36 \div 14 + 7 \times 4$ का मान क्या है?

- Ans
- 1. 24
 - 2. 36
 - 3. 33
 - 4. 28

Question Type : MCQ
Question ID : 264330139013
Option 1 ID : 264330544659
Option 2 ID : 264330544662
Option 3 ID : 264330544660
Option 4 ID : 264330544661
Status : Answered
Chosen Option : 2

Q.2 एक दुकानदार एक वस्तु के अंकित मूल्य पर 20 प्रतिशत की छूट देता है और उसे 12 प्रतिशत की हानि होती है। यदि वस्तु को अंकित मूल्य पर बेचा जाए, तो लाभ प्रतिशत कितना होगा?

- Ans
- 1. 9.69 प्रतिशत
 - 2. 10 प्रतिशत
 - 3. 8.33 प्रतिशत
 - 4. 12.5 प्रतिशत

Question Type : MCQ
Question ID : 264330137143
Option 1 ID : 264330537215
Option 2 ID : 264330537216
Option 3 ID : 264330537217
Option 4 ID : 264330537218
Status : Answered
Chosen Option : 2

Q.3 56 व्यक्ति एक पुल की मरम्मत 20 दिनों में कर सकते हैं। यदि 14 व्यक्ति और शामिल हो जाते हैं, तो कितने दिनों में पुल की मरम्मत की जा सकती है?

- Ans
- 1. 14 दिनों में
 - 2. 12 दिनों में
 - 3. 16 दिनों में
 - 4. 18 दिनों में

Question Type : MCQ
Question ID : 264330133770
Option 1 ID : 264330524103
Option 2 ID : 264330524104
Option 3 ID : 264330524105
Option 4 ID : 264330524106
Status : Answered
Chosen Option : 3

Q.4 यदि $2A = 3B = 7C$ है, तो $A : B : C$ का मान क्या है?

- Ans
- 1. 14 : 18 : 5
 - 2. 21 : 7 : 6
 - 3. 3 : 2 : 1
 - 4. 21 : 14 : 6

Question Type : MCQ
Question ID : 264330137139
Option 1 ID : 264330537202
Option 2 ID : 264330537201
Option 3 ID : 264330537199
Option 4 ID : 264330537200
Status : Answered
Chosen Option : 4

Q.5 कार्तिक को 80 km/hr की चाल से स्थान X से स्थान Y तक की यात्रा करने में 4 घंटे का समय लगता है। वह 80% अधिक तेज़ चाल के साथ स्थान Y से स्थान Z तक की यात्रा करने में 1 घंटे का समय लेता है। पूरी यात्रा में स्थान X से स्थान Z तक की औसत चाल क्या है?

- Ans
- 1. 88.6 km/hr
 - 2. 82.6 km/hr
 - 3. 92.8 km/hr
 - 4. 90.8 km/hr

Question Type : MCQ
Question ID : 264330141032
Option 1 ID : 264330552477
Option 2 ID : 264330552478
Option 3 ID : 264330552476
Option 4 ID : 264330552475
Status : Not Answered
Chosen Option : --

Q.6 साधारण ब्याज की किसी दर पर Rs. 14500 की धनराशि 36 महीनों में Rs. 16675 हो जाएगी। तो वार्षिक ब्याज दर क्या है?

- Ans**
- 1. 4% वार्षिक
 - 2. 6% वार्षिक
 - 3. 7% वार्षिक
 - 4. 5% वार्षिक

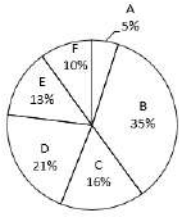
Question Type : **MCQ**
Question ID : **264330134091**
Option 1 ID : **264330525387**
Option 2 ID : **264330525389**
Option 3 ID : **264330525390**
Option 4 ID : **264330525388**
Status : **Answered**
Chosen Option : **1**

Q.7 एक बेलन की ऊँचाई और वक्र पृष्ठीय क्षेत्रफल क्रमशः 15 cm और 330 cm^2 है। बेलन का व्यास ज्ञात कीजिए।

- Ans**
- 1. 5 cm
 - 2. 2 cm
 - 3. 6 cm
 - 4. 7 cm

Question Type : **MCQ**
Question ID : **264330133775**
Option 1 ID : **264330524124**
Option 2 ID : **264330524126**
Option 3 ID : **264330524123**
Option 4 ID : **264330524125**
Status : **Answered**
Chosen Option : **4**

Q.8 नीचे दिए गए वृत्त आलेख में छः विद्यालयों में पढ़ने वाले छात्रों की संख्या को दर्शाया गया है। इन सभी छः विद्यालयों में पढ़ने वाले छात्रों की कुल संख्या 9000 है। इनमें से किसी एक विशिष्ट विद्यालय में पढ़ने वाले छात्रों की संख्या को इन सभी छः विद्यालयों में पढ़ने वाले छात्रों की कुल संख्या के प्रतिशत के रूप में दर्शाया गया है।



स्कूल A और B में मिलाकर पढ़ने वाले छात्रों की संख्या और स्कूल D और F में मिलाकर पढ़ने वाले छात्रों की संख्या के बीच कितना अंतर है?

- Ans
- 1. 840
 - 2. 810
 - 3. 770
 - 4. 790

Question Type : MCQ

Question ID : 264330137151

Option 1 ID : 264330537249

Option 2 ID : 264330537248

Option 3 ID : 264330537250

Option 4 ID : 264330537247

Status : Answered

Chosen Option : 2

Q.9 18 पुरुष एक कार्य को 50 दिनों में पूरा कर सकते हैं। यदि 25 पुरुष कार्य करते हैं, तो कार्य कितने दिनों में पूरा होगा?

- Ans
- 1. 32 दिन
 - 2. 48 दिन
 - 3. 36 दिन
 - 4. 25 दिन

Question Type : MCQ

Question ID : 264330137665

Option 1 ID : 264330539269

Option 2 ID : 264330539270

Option 3 ID : 264330539267

Option 4 ID : 264330539268

Status : Answered

Chosen Option : 3

Q.10 वार्षिक चक्रवृद्धि ब्याज (वार्षिक रूप से संयोजित) की किस दर पर Rs.250000 की राशि 2 वर्षों में Rs.275625 हो जाएगी?

- Ans
- 1. 3% वार्षिक
 - 2. 8% वार्षिक
 - 3. 5% वार्षिक
 - 4. 10% वार्षिक

Question Type : MCQ

Question ID : 264330133638

Option 1 ID : 264330523578

Option 2 ID : 264330523576

Option 3 ID : 264330523577

Option 4 ID : 264330523575

Status : Not Answered

Chosen Option : --

Q.11 Rs. 120 की धनराशि को p, q और r के बीच इस प्रकार बाँटा जाता है कि p को q से Rs. 9 अधिक मिलते हैं और q को r से Rs. 6 अधिक मिलते हैं। p, q और r के हिस्सों का क्रमशः अनुपात क्या है?

- Ans
- 1. 11 : 8 : 10
 - 2. 16 : 13 : 11
 - 3. 18 : 15 : 13
 - 4. 15 : 12 : 10

Question Type : MCQ

Question ID : 264330137140

Option 1 ID : 264330537205

Option 2 ID : 264330537206

Option 3 ID : 264330537204

Option 4 ID : 264330537203

Status : Answered

Chosen Option : 2

Q.12 नीचे दी गई तालिका में दो कंपनियों द्वारा बेची गई 5 अलग-अलग प्रकार की वाइकों की संख्या को दर्शाया गया है।

वाइक	कंपनी	
	C1	C2
A	50	80
B	30	40
C	70	90
D	80	110
E	100	140

निम्नलिखित में से कौन-सा कथन सही है?

I. C1 द्वारा बेची गई वाइक A की संख्या और C2 द्वारा बेची गई वाइक D की संख्या का अनुपात 5 : 11 है।

II. C1 द्वारा बेची गई वाइक A, B, D और E की औसत संख्या 75 है।

Ans

- ✓ 1. केवल I
✗ 2. न तो I और न ही II
✗ 3. केवल II
✗ 4. I और II दोनों

Question Type : MCQ

Question ID : 264330139014

Option 1 ID : 264330544663

Option 2 ID : 264330544666

Option 3 ID : 264330544664

Option 4 ID : 264330544665

Status : Answered

Chosen Option : 1

Q.13 एक ठोस बेलन, जिसकी आधार की त्रिज्या 28 cm और ऊँचाई 24 cm है, को इसकी ऊँचाई से समद्विभाजित करके दो समरूप बेलन प्राप्त किए जाते हैं। कुल पृष्ठीय क्षेत्रफल में कितने प्रतिशत की वृद्धि होगी?

Ans

- ✗ 1. 41.92 प्रतिशत
✓ 2. 53.85 प्रतिशत
✗ 3. 61.72 प्रतिशत
✗ 4. 48.64 प्रतिशत

Question Type : MCQ

Question ID : 264330137678

Option 1 ID : 264330539319

Option 2 ID : 264330539322

Option 3 ID : 264330539321

Option 4 ID : 264330539320

Status : Answered

Chosen Option : 2

Q.14 एक कमरे की लंबाई, चौड़ाई, और ऊँचाई क्रमशः 6 m 40 cm, 4 m 80 cm और 3 m 20 cm है। ऐसे सबसे लंबे फीते की लंबाई ज्ञात कीजिए जो कमरे के आयामों को सटीक रूप से नाप सकता है।

- Ans
- 1. 1 m 20 cm
 - 2. 1 m 60 cm
 - 3. 1 m 40 cm
 - 4. 1 m 80 cm

Question Type : MCQ

Question ID : 264330137147

Option 1 ID : 264330537234

Option 2 ID : 264330537231

Option 3 ID : 264330537233

Option 4 ID : 264330537232

Status : Answered

Chosen Option : 2

Q.15 11 संख्याओं का औसत 8 है। यदि प्रत्येक संख्या को तीन गुना कर दिया जाए, तो संख्याओं का नया औसत क्या होगा?

- Ans
- 1. 24
 - 2. 16
 - 3. 32
 - 4. 8

Question Type : MCQ

Question ID : 264330137133

Option 1 ID : 264330537177

Option 2 ID : 264330537175

Option 3 ID : 264330537178

Option 4 ID : 264330537176

Status : Answered

Chosen Option : 1

Q.16 एक व्यक्ति स्थान A से शुरू करके स्थान B तक 50 घंटे में पहुँचता है। वह $\frac{1}{4}$ दूरी 5 km/hr की चाल से और शेष दूरी 15 km/hr की चाल से तय करता है। A से B के बीच की दूरी कितनी है?

- Ans
- 1. 375 km
 - 2. 525 km
 - 3. 500 km
 - 4. 425 km

Question Type : MCQ

Question ID : 264330137132

Option 1 ID : 264330537174

Option 2 ID : 264330537171

Option 3 ID : 264330537173

Option 4 ID : 264330537172

Status : Answered

Chosen Option : 2

Q.17 यदि दो संख्याओं 260 और 390 का लघुत्तम समापवर्त्य (LCM) 780 है, तो उनका महत्तम समापवर्तक (HCF) ज्ञात कीजिए।

- Ans 1. 130
 2. 120
 3. 133
 4. 140

Question Type : MCQ
Question ID : 264330138414
Option 1 ID : 264330542264
Option 2 ID : 264330542263
Option 3 ID : 264330542265
Option 4 ID : 264330542266
Status : Answered
Chosen Option : 1

Q.18 एक संख्या में 5% की वृद्धि की जाती है और फिर बड़ी हुई संख्या में 5% की कमी की जाती है। निवल वृद्धि या कमी प्रतिशत कितना है?

- Ans 1. 0.50% कमी
 2. 0.25% कमी
 3. 1% वृद्धि
 4. 0.75% वृद्धि

Question Type : MCQ
Question ID : 264330133631
Option 1 ID : 264330523548
Option 2 ID : 264330523549
Option 3 ID : 264330523547
Option 4 ID : 264330523550
Status : Answered
Chosen Option : 1

Q.19 एक व्यक्ति को 80 पैन Rs. 40 में बेचने पर 20 प्रतिशत की हानि होती है। 10 प्रतिशत का लाभ अर्जित करने के लिए 80 पैन का विक्रय मूल्य क्या होना चाहिए?

- Ans 1. Rs. 60
 2. Rs. 55
 3. Rs. 80
 4. Rs. 65

Question Type : MCQ
Question ID : 264330137138
Option 1 ID : 264330537195
Option 2 ID : 264330537196
Option 3 ID : 264330537197
Option 4 ID : 264330537198
Status : Answered
Chosen Option : 2

Q.20 एक दुकानदार 105 m कपड़ा Rs. 12600 में Rs. 20 प्रति मीटर के लाभ पर बेचता है। 20 m कपड़े का क्रय मूल्य कितना है?

- Ans**
- 1. Rs. 1000
 - 2. Rs. 4000
 - 3. Rs. 2000
 - 4. Rs. 3000

Question Type : **MCQ**

Question ID : **264330138042**

Option 1 ID : **264330540778**

Option 2 ID : **264330540775**

Option 3 ID : **264330540777**

Option 4 ID : **264330540776**

Status : **Answered**

Chosen Option : **3**

Section : Reasoning Ability and Problem Solving

Q.1 एक निश्चित कूट भाषा में, 'ASKING' को 'SAIKGN' लिखा जाता है। उस कूट भाषा में 'DECIDE' को कैसे लिखा जाएगा?

- Ans**
- 1. EDICED
 - 2. EDCIDE
 - 3. EDIBED
 - 4. EDICDE

Question Type : **MCQ**

Question ID : **264330137369**

Option 1 ID : **264330538105**

Option 2 ID : **264330538104**

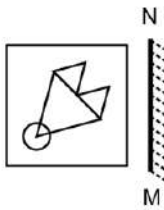
Option 3 ID : **264330538106**

Option 4 ID : **264330538103**

Status : **Answered**

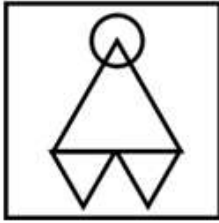
Chosen Option : **1**

Q.2 दी गई आकृति के उस सही दर्पण प्रतिबिंब को चुनिए, जो दर्पण MN को आकृति के दाईं ओर रखने पर बनेगा।



Ans

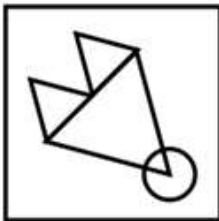
✗ 1.



✗ 2.



✓ 3.



✗ 4.



Question Type : **MCQ**

Question ID : **264330138827**

Option 1 ID : **264330543917**

Option 2 ID : **264330543916**

Option 3 ID : **264330543915**

Option 4 ID : **264330543918**

Status : **Answered**

Chosen Option : **3**

Q.3 (::) के बाईं ओर दिए गए शब्द एक-दूसरे से किसी तर्क/नियम/संबंध द्वारा संबंधित हैं। उसी तर्क/नियम/संबंध के आधार पर दिए गए विकल्पों में से (::) के दाईं ओर लुप्त शब्द/शब्द युग्म को चुनिए।

वियना (Vienna) : ऑस्ट्रिया :: ?

- Ans**
- 1. रूस : माँस्को
 - 2. केन्या : नायरोबी
 - 3. थिम्फू : भूटान
 - 4. पाकिस्तान : इस्लामाबाद

Question Type : **MCQ**

Question ID : **264330137089**

Option 1 ID : **264330536999**

Option 2 ID : **264330537002**

Option 3 ID : **264330537001**

Option 4 ID : **264330537000**

Status : **Answered**

Chosen Option : **2**

Q.4 नीचे दिए गए प्रश्न में कुछ कथन दिए गए हैं और उन कथनों के आधार पर कुछ निष्कर्ष दिए गए हैं। आपको मानना है कि दिए गए कथन सत्य हैं चाहे वे समान्यतः जात तथ्यों से अलग प्रतीत होते हों। सभी निष्कर्षों को पढ़िए और फिर निश्चय कीजिए कि दिए गए निष्कर्षों में से कौन-सा निष्कर्ष तार्किक रूप से दिए गए कथनों के अनुसार है।

कथन:

I. कोई N, A नहीं है।

II. सभी A, T हैं।

निष्कर्ष:

I. कुछ T, A हैं।

II. कुछ N, T हैं।

III. कोई A, N नहीं है।

- Ans**
- 1. सभी निष्कर्ष कथनों के अनुसार हैं
 - 2. दोनों निष्कर्ष I और III कथनों के अनुसार हैं
 - 3. दोनों निष्कर्ष II और III कथनों के अनुसार हैं
 - 4. दोनों निष्कर्ष I और II कथनों के अनुसार हैं

Question Type : **MCQ**

Question ID : **264330137098**

Option 1 ID : **264330537038**

Option 2 ID : **264330537037**

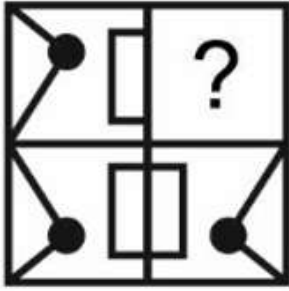
Option 3 ID : **264330537036**

Option 4 ID : **264330537035**

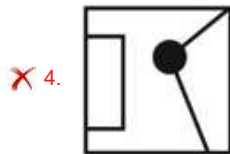
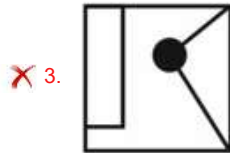
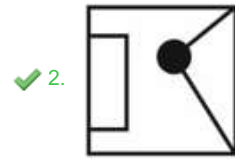
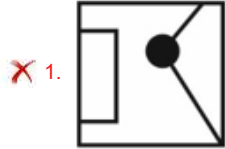
Status : **Answered**

Chosen Option : **2**

Q.5 कौन-सी उत्तर आकृति प्रश्न आकृति में पैटर्न को पूरा करेगी?



Ans



Question Type : MCQ

Question ID : 264330137107

Option 1 ID : 264330537071

Option 2 ID : 264330537074

Option 3 ID : 264330537072

Option 4 ID : 264330537073

Status : Answered

Chosen Option : 2

Q.6 दी गई श्रृंखला में निम्नलिखित में से कौन-सी संख्या प्रश्न चिन्ह (?) के स्थान पर आएगी?
25, 36, 49, 64, 81, 100, 121, 144, 169, ?

Ans ✓ 1. 196

✗ 2. 256

✗ 3. 204

✗ 4. 342

Question Type : MCQ

Question ID : 264330133377

Option 1 ID : 264330522539

Option 2 ID : 264330522541

Option 3 ID : 264330522540

Option 4 ID : 264330522542

Status : Answered

Chosen Option : 1

Q.7 छः शिक्षक अनिल, कमल, राम, संजय, आकाश और विवेक एक वृत्ताकार मेज के चारों ओर केंद्र की ओर मुख करके बैठे हैं (परंतु जरूरी नहीं कि वे इसी क्रम में बैठें हों)। राम, विवेक के दाईं ओर तीसरे स्थान पर बैठा है। विवेक, अनिल के दाईं ओर दूसरे स्थान पर बैठा है। आकाश, अनिल के ठीक दाईं ओर है। कमल, विवेक का निकटतम पड़ोसी नहीं है। कमल और विवेक दोनों का निकटतम पड़ोसी कौन है?

- Ans
- 1. राम
 - 2. आकाश
 - 3. संजय
 - 4. अनिल

Question Type : MCQ
Question ID : 264330137094
Option 1 ID : 264330537022
Option 2 ID : 264330537019
Option 3 ID : 264330537021
Option 4 ID : 264330537020
Status : Answered
Chosen Option : 2

Q.8 एक श्रृंखला दी गई है जिसमें एक पद लुप्त है। दिए गए विकल्पों में से उस सही विकल्प को चुनिए जो श्रृंखला को पूरा करेगा।

APCE, DSYA, GVUW, JYQS, ?

- Ans
- 1. BMMO
 - 2. MBMO
 - 3. NBNO
 - 4. NBMO

Question Type : MCQ
Question ID : 264330137086
Option 1 ID : 264330536988
Option 2 ID : 264330536987
Option 3 ID : 264330536990
Option 4 ID : 264330536989
Status : Answered
Chosen Option : 2

Q.9 उस विकल्प को चुनिए जो तीसरी संख्या से ठीक उसी तरह संबंधित है जिस तरह दूसरी संख्या पहली संख्या से संबंधित है।

7 : 56 :: 12 : ?

- Ans
- 1. 156
 - 2. 165
 - 3. 256
 - 4. 110

Question Type : MCQ
Question ID : 264330133379
Option 1 ID : 264330522550
Option 2 ID : 264330522547
Option 3 ID : 264330522549
Option 4 ID : 264330522548
Status : Answered
Chosen Option : 1

Q.10 सात व्यक्ति अनिल, कमल, राम, संजय, आकाश, विवेक और राहुल एक वृत्ताकार मेज के चारों ओर केंद्र से विपरीत दिशा में मुख करके बैठे हैं (परंतु जरूरी नहीं कि वे इसी क्रम में बैठें हों)। विवेक, कमल और राहुल दोनों का निकटतम पड़ोसी है। कमल, आकाश के बाईं ओर दूसरे स्थान पर बैठा है। अनिल, आकाश और संजय दोनों का निकटतम पड़ोसी है। संजय के दाईं ओर दूसरे स्थान पर कौन बैठा है?

- Ans
- ✓ 1. विवेक
 - ✗ 2. आकाश
 - ✗ 3. कमल
 - ✗ 4. अनिल

Question Type : MCQ
Question ID : 264330137095
Option 1 ID : 264330537026
Option 2 ID : 264330537025
Option 3 ID : 264330537023
Option 4 ID : 264330537024
Status : Answered
Chosen Option : 2

Q.11 एक लिखित कूट भाषा में, 'WALL' को '24' लिखा जाता है। उस कूट भाषा में 'FLOOR' को कैसे लिखा जाएगा?

- Ans
- ✓ 1. 33
 - ✗ 2. 23
 - ✗ 3. 66
 - ✗ 4. 43

Question Type : MCQ
Question ID : 264330133699
Option 1 ID : 264330523821
Option 2 ID : 264330523820
Option 3 ID : 264330523822
Option 4 ID : 264330523819
Status : Answered
Chosen Option : 3

Q.12 दिए गए समीकरण को सही करने के लिए किन दो चिन्हों को आपस में बदला जाना चाहिए?

$$44 \div 11 + 7 \times 3 - 19 = 2$$


- Ans
- ✓ 1. - और +
 - ✗ 2. - और =
 - ✗ 3. + और ÷
 - ✗ 4. = और ÷


Question Type : MCQ
Question ID : 264330133712
Option 1 ID : 264330523872
Option 2 ID : 264330523871
Option 3 ID : 264330523874
Option 4 ID : 264330523873
Status : Answered
Chosen Option : 3


Q.13 दिए गए दो चिन्हों और दो संख्याओं को आपस में बदलने पर, दिए गए समीकरण का मान क्या होगा?

+ और -, 7 और 9 ; $8 \times 7 + 9 \div 1 - 5$

Ans  1. 70

 2. 10

 3. 60

 4. 40

Question Type : **MCQ**

Question ID : **264330137103**

Option 1 ID : **264330537056**

Option 2 ID : **264330537055**

Option 3 ID : **264330537058**

Option 4 ID : **264330537057**

Status : **Answered**

Chosen Option : **3**

Q.14 उस विकल्प आकृति को चुनिए जिसमें दी गई आकृति (X) इसके भाग के रूप में निहित है (घूर्णन की अनुमति नहीं है)।



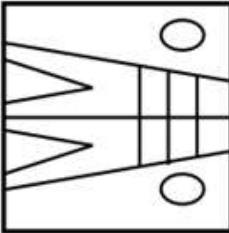
X

Ans

✓ 1.



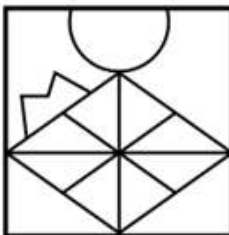
✗ 2.



✗ 3.



✗ 4.



Question Type : MCQ

Question ID : 264330138826

Option 1 ID : 264330543911

Option 2 ID : 264330543913

Option 3 ID : 264330543914

Option 4 ID : 264330543912

Status : Answered

Chosen Option : 1

Q.15 एक निश्चित कूट भाषा में, 'FOREIGN' को 'EFGINOR' लिखा जाता है। उस कूट भाषा में 'NUCLEAR' को कैसे लिखा जाएगा?

- Ans
- 1. AECLNRU
 - 2. ACELRUN
 - 3. ACELNUR
 - 4. ACELNRU

Question Type : MCQ
Question ID : 264330137543
Option 1 ID : 264330538780
Option 2 ID : 264330538781
Option 3 ID : 264330538782
Option 4 ID : 264330538779
Status : Answered
Chosen Option : 1

Q.16 पाँच लड़कियाँ मानसी, काजल, रीतू, टीना और रिया के अंकों की तुलना की जाती है। रिया के अंक मानसी से कम लेकिन टीना से अधिक हैं। रीतू के अंक टीना, रिया और मानसी से कम हैं। काजल के अंक रीतू से कम हैं। कितनी लड़कियों के अंक रिया के अंकों से कम हैं?

- Ans
- 1. 3
 - 2. 0
 - 3. 2
 - 4. 1

Question Type : MCQ
Question ID : 264330137096
Option 1 ID : 264330537029
Option 2 ID : 264330537030
Option 3 ID : 264330537028
Option 4 ID : 264330537027
Status : Answered
Chosen Option : 3

Q.17 (::) के बाईं ओर दिए गए शब्द एक-दूसरे से किसी तर्क/नियम/संबंध द्वारा संबंधित हैं। उसी तर्क/नियम/संबंध के आधार पर दिए गए विकल्पों में से (::) के दाईं ओर लुप्त शब्द/शब्द युग्म को चुनिए।

आर्द्रतामापी : आर्द्रता :: वायुवेगमापी : ?

- Ans
- 1. लंबाई
 - 2. पवन
 - 3. ताप
 - 4. विद्युत धारा

Question Type : MCQ
Question ID : 264330137088
Option 1 ID : 264330536997
Option 2 ID : 264330536998
Option 3 ID : 264330536996
Option 4 ID : 264330536995
Status : Answered
Chosen Option : 2

Q.18 निम्नलिखित प्रश्न में, दी गई श्रृंखला में लुप्त संख्या को चुनिए।

10, 4, 3, 3.5, 6, ?

Ans 1. 9

2. 14

3. 10

4. 12

Question Type : MCQ

Question ID : 264330137100

Option 1 ID : 264330537046

Option 2 ID : 264330537044

Option 3 ID : 264330537043

Option 4 ID : 264330537045

Status : Answered

Chosen Option : 1

Q.19 नीचे दिए गए प्रश्न में कुछ कथन दिए गए हैं और उन कथनों के आधार पर कुछ निष्कर्ष दिए गए हैं। आपको मानना है कि दिए गए कथन सत्य हैं चाहे वे समान्यतः ज्ञात तथ्यों से अलग प्रतीत होते हों। सभी निष्कर्षों को पढ़िए और फिर निश्चय कीजिए कि दिए गए निष्कर्षों में से कौन-सा निष्कर्ष तार्किक रूप से दिए गए कथनों के अनुसार है।

कथन:

I. कोई कुर्सी, ठोस नहीं है।

II. कोई मेज, ठोस नहीं है।

निष्कर्ष:

I. कुछ मेज, कुर्सी हैं।

II. कोई ठोस, कुर्सी नहीं है।

Ans 1. दोनों निष्कर्ष I और II कथनों के अनुसार हैं

2. केवल निष्कर्ष II कथनों के अनुसार है

3. केवल निष्कर्ष I कथनों के अनुसार है

4. कोई भी निष्कर्ष कथनों के अनुसार नहीं है

Question Type : MCQ

Question ID : 264330137097

Option 1 ID : 264330537033

Option 2 ID : 264330537032

Option 3 ID : 264330537031

Option 4 ID : 264330537034

Status : Answered

Chosen Option : 4

Q.20 उस विकल्प को चुनिए जिसमें समुच्चय की संख्याएँ वही संबंध साझा करती हैं जो दिए गए समुच्चय में संख्याओं द्वारा साझा किया जाता है। (ध्यान दें: संख्याओं को उनके घटक अंकों में अलग-अलग किए बिना, पूर्ण संख्याओं पर संक्रियाएँ की जानी चाहिए। उदा. 13 - 13 पर संक्रियाएँ जैसे 13 को जोड़ना /घटाना /गुणा करना आदि किया जा सकता है। 13 को 1 और 3 में अलग-अलग करने की और फिर 1 और 3 पर गणितीय संक्रियाएँ करने की अनुमति नहीं है)

(5, 50, 500)

(3, 30, 300)

Ans ✓ 1. (7, 70, 700)

✗ 2. (11, 110, 2200)

✗ 3. (14, 140, 1500)

✗ 4. (12, 220, 440)

Question Type : **MCQ**

Question ID : **264330137102**

Option 1 ID : **264330537051**

Option 2 ID : **264330537052**

Option 3 ID : **264330537054**

Option 4 ID : **264330537053**

Status : **Answered**

Chosen Option : **1**

Section : **General Awareness**

Q.1 भारत में अभियंता दिवस _____ की स्मृति में मनाया जाता है।

Ans ✗ 1. कल्पना चावला

✓ 2. डॉ. एम. विश्वेश्वरैया

✗ 3. सतीश धवन

✗ 4. ए. पी. जे. अब्दुल कलाम

Question Type : **MCQ**

Question ID : **264330137019**

Option 1 ID : **264330536721**

Option 2 ID : **264330536722**

Option 3 ID : **264330536719**

Option 4 ID : **264330536720**

Status : **Answered**

Chosen Option : **2**

Q.2 वृक्ष और झाड़ियों की खेती _____ कहलाती है।

- Ans
- ✓ 1. अर्बोरीकल्चर
 - ✗ 2. ऐविकल्चर
 - ✗ 3. एपिकल्चर
 - ✗ 4. विटिकल्चर

Question Type : MCQ
Question ID : 264330137720
Option 1 ID : 264330539488
Option 2 ID : 264330539487
Option 3 ID : 264330539490
Option 4 ID : 264330539489
Status : Answered
Chosen Option : 1

Q.3 बजट 2022 में की गई घोषणा के अनुसार, कॉर्पोरेट अधिभार (surcharge) को 12% से घटाकर _____ कर दिया गया था।

- Ans
- ✓ 1. 7%
 - ✗ 2. 10%
 - ✗ 3. 9%
 - ✗ 4. 5%

Question Type : MCQ
Question ID : 264330137735
Option 1 ID : 264330539549
Option 2 ID : 264330539547
Option 3 ID : 264330539550
Option 4 ID : 264330539548
Status : Answered
Chosen Option : 2

Q.4 कथक नृत्य का राष्ट्रीय संस्थान _____ में स्थित है।

- Ans
- ✗ 1. लखनऊ
 - ✓ 2. नई दिल्ली
 - ✗ 3. वाराणसी
 - ✗ 4. मेरठ

Question Type : MCQ
Question ID : 264330137011
Option 1 ID : 264330536687
Option 2 ID : 264330536690
Option 3 ID : 264330536688
Option 4 ID : 264330536689
Status : Answered
Chosen Option : 2

Q.5 भारत ने टोक्यो ओलंपिक 2020 (वर्ष 2021 में खेले गए) में कुल कितने पदक जीते?

- Ans
- 1. छः
 - 2. सात
 - 3. पाँच
 - 4. आठ

Question Type : MCQ

Question ID : 264330133860

Option 1 ID : 264330524464

Option 2 ID : 264330524465

Option 3 ID : 264330524463

Option 4 ID : 264330524466

Status : Answered

Chosen Option : 2

Q.6 संकरी नलियों द्वारा पौधों को जल देने की तकनीक, जो सीधे उनकी जड़ों तक जल पहुँचाती है _____ कहलाती है।

- Ans
- 1. पृष्ठीय सिंचाई
 - 2. ड्रिप सिंचाई
 - 3. नहर सिंचाई
 - 4. छिड़काव सिंचाई

Question Type : MCQ

Question ID : 264330133870

Option 1 ID : 264330524505

Option 2 ID : 264330524503

Option 3 ID : 264330524504

Option 4 ID : 264330524506

Status : Answered

Chosen Option : 2

Q.7 भारत में मेलोडी क्वीन के नाम से किसे जाना जाता था?

- Ans
- 1. अनुराधा पौडवाल
 - 2. ज़रीन एस. शर्मा
 - 3. लता मंगेशकर
 - 4. शुभा मुद्गल

Question Type : MCQ

Question ID : 264330137017

Option 1 ID : 264330536711

Option 2 ID : 264330536714

Option 3 ID : 264330536713

Option 4 ID : 264330536712

Status : Answered

Chosen Option : 3

Q.8 भारत के सर्वोच्च न्यायालय द्वारा, बेटियों को उनकी पैतृक संपत्ति में समान अधिकार प्रदान करने के लिए किस अधिनियम में संशोधन किया गया है?

Ans 1.

न्यायिक अवमानना अधिनियम (The Contempt of Courts Act)

2. हिन्दू विवाह अधिनियम (Hindu Marriage Act)

3.

हिन्दू उत्तराधिकार अधिनियम (Hindu Succession Act)

4. शारदा अधिनियम (Sarda Act)

Question Type : MCQ

Question ID : 264330134057

Option 1 ID : 264330525252

Option 2 ID : 264330525254

Option 3 ID : 264330525253

Option 4 ID : 264330525251

Status : Answered

Chosen Option : 3

Q.9 भारत की सीमा _____ में अफगानिस्तान और पाकिस्तान से लगती है।

Ans 1. उत्तर-पश्चिम

2. उत्तर-पूर्व

3. दक्षिण

4. दक्षिण-पश्चिम

Question Type : MCQ

Question ID : 264330137981

Option 1 ID : 264330540531

Option 2 ID : 264330540532

Option 3 ID : 264330540534

Option 4 ID : 264330540533

Status : Answered

Chosen Option : 1

Q.10 वी. सत्यनारायण सरमा (V. Satyanarayana Sarma), जिन्हें 'सत्यम' के नाम से जाना जाता है, निम्नलिखित में से किस नृत्य शैली से संबंधित हैं?

Ans 1. मोहिनीअट्टम

2. भरतनाट्यम

3. कथकली

4. कुचिपुड़ी

Question Type : MCQ

Question ID : 264330137730

Option 1 ID : 264330539528

Option 2 ID : 264330539529

Option 3 ID : 264330539530

Option 4 ID : 264330539527

Status : Answered

Chosen Option : 2

Q.11 2011 की जनगणना के अनुसार, निम्न में से किस राज्य का जनसंख्या घनत्व सर्वाधिक है?

- Ans
- 1. उत्तरप्रदेश
 - 2. तमिलनाडु
 - 3. महाराष्ट्र
 - 4. बिहार

Question Type : MCQ
Question ID : 264330137047
Option 1 ID : 264330536834
Option 2 ID : 264330536833
Option 3 ID : 264330536832
Option 4 ID : 264330536831
Status : Answered
Chosen Option : 1

Q.12 वर्षा को _____ नामक एक यंत्र द्वारा मापा जाता है।

- Ans
- 1. वर्षामापी (rain gauge)
 - 2. वर्षा परिकलक (rain calculator)
 - 3. अवक्षेपक (precipitator)
 - 4. रेन कैचर (rain catcher)

Question Type : MCQ
Question ID : 264330133871
Option 1 ID : 264330524508
Option 2 ID : 264330524509
Option 3 ID : 264330524510
Option 4 ID : 264330524507
Status : Answered
Chosen Option : 1

Q.13 राष्ट्रकूट वंश के संस्थापक _____ थे।

- Ans
- 1. दन्तिदुर्ग
 - 2. कृष्णादुर्ग
 - 3. अमोघवर्ष
 - 4. गोविंददुर्ग

Question Type : MCQ
Question ID : 264330133878
Option 1 ID : 264330524536
Option 2 ID : 264330524538
Option 3 ID : 264330524535
Option 4 ID : 264330524537
Status : Answered
Chosen Option : 2

Q.14 "उगादि" का त्योहार हर वर्ष हिंदू महीने _____ के पहले दिन मनाया जाता है।

- Ans
- 1. आषाढ़
 - 2. चैत्र
 - 3. ज्येष्ठ
 - 4. कार्तिक

Question Type : MCQ
Question ID : 264330138872
Option 1 ID : 264330544097
Option 2 ID : 264330544096
Option 3 ID : 264330544098
Option 4 ID : 264330544095
Status : Answered
Chosen Option : 1

Q.15 मोतीलाल नेहरू और सी.आर. दास ने किस आंदोलन में अपनी वकालत छोड़ दी?

- Ans
- 1. असहयोग आंदोलन (Non-Cooperation Movement)
 - 2. सविनय अवज्ञा आंदोलन (Civil Disobedience Movement)
 - 3. स्वाभिमान आंदोलन (Self-respect Movement)
 - 4. भारत छोड़ो आंदोलन (Quit India Movement)

Question Type : MCQ
Question ID : 264330138895
Option 1 ID : 264330544189
Option 2 ID : 264330544188
Option 3 ID : 264330544190
Option 4 ID : 264330544187
Status : Answered
Chosen Option : 4

Q.16 "वन लाइफ इज नॉट इनफ (One Life is Not Enough)" निम्नलिखित में से किस लेखक द्वारा लिखी गई है?

- Ans
- 1. झुंपा लाहिड़ी
 - 2. फ़राज़ अहमद
 - 3. के. नटवर सिंह
 - 4. खुशवंत सिंह

Question Type : MCQ
Question ID : 264330137728
Option 1 ID : 264330539522
Option 2 ID : 264330539521
Option 3 ID : 264330539519
Option 4 ID : 264330539520
Status : Not Answered
Chosen Option : --

Q.17 ऐसे पदार्थों, जिनसे होकर वस्तुओं को देख तो सकते हैं, परंतु बहुत स्पष्ट नहीं देखा जा सकता, उन्हें _____ कहते हैं।

- Ans
- 1. अपारदर्शी पदार्थ
 - 2. पारभासी पदार्थ
 - 3. संवाही पदार्थ
 - 4. पारदर्शी पदार्थ

Question Type : MCQ
Question ID : 264330133872
Option 1 ID : 264330524513
Option 2 ID : 264330524512
Option 3 ID : 264330524514
Option 4 ID : 264330524511
Status : Answered
Chosen Option : 2

Q.18 "गोपुरम (Gopuram)" या मंदिर का प्रवेश द्वार किस मंदिर स्थापत्यकला की विशेषता है?

- Ans
- 1. उत्तर भारतीय मंदिर स्थापत्यकला
 - 2. बौद्ध स्थापत्यकला
 - 3. दक्षिण भारतीय मंदिर स्थापत्यकला
 - 4. जैन स्थापत्यकला

Question Type : MCQ
Question ID : 264330134060
Option 1 ID : 264330525263
Option 2 ID : 264330525265
Option 3 ID : 264330525264
Option 4 ID : 264330525266
Status : Answered
Chosen Option : 3

Q.19 कलिंग (Kalinga), जिसे सम्राट अशोक ने जीता था, _____ का प्राचीन नाम है।

- Ans
- 1. तटीय उड़ीसा
 - 2. तटीय बंगाल
 - 3. तटीय कर्नाटक
 - 4. तटीय तमिलनाडु

Question Type : MCQ
Question ID : 264330138892
Option 1 ID : 264330544176
Option 2 ID : 264330544175
Option 3 ID : 264330544177
Option 4 ID : 264330544178
Status : Answered
Chosen Option : 1

Q.20 1875 के दक्कन विद्रोह _____ में हुए थे।

- Ans
- 1. बिहार
 - 2. हिमाचल प्रदेश
 - 3. महाराष्ट्र
 - 4. पश्चिम बंगाल

Question Type : MCQ
Question ID : 264330134071
Option 1 ID : 264330525309
Option 2 ID : 264330525307
Option 3 ID : 264330525308
Option 4 ID : 264330525310
Status : Answered
Chosen Option : 3

Q.21 निम्नलिखित में से किस अनुच्छेद में, "संस्कृति एवं शिक्षा के अधिकार" का उल्लेख किया गया है?

- Ans
- 1. अनुच्छेद 19 - 22
 - 2. अनुच्छेद 23 - 24
 - 3. अनुच्छेद 25 - 28
 - 4. अनुच्छेद 29 - 30

Question Type : MCQ
Question ID : 264330137023
Option 1 ID : 264330536738
Option 2 ID : 264330536737
Option 3 ID : 264330536736
Option 4 ID : 264330536735
Status : Answered
Chosen Option : 1

Q.22 Water comes out of the leaves in the form of vapour by a process called _____.

- Ans
- 1. creepers
 - 2. venation
 - 3. transportation
 - 4. transpiration

Question Type : MCQ
Question ID : 264330137024
Option 1 ID : 264330536740
Option 2 ID : 264330536739
Option 3 ID : 264330536742
Option 4 ID : 264330536741
Status : Answered
Chosen Option : 4

Q.23 डूरंड कप (Durand Cup) की स्थापना शिमला में वर्ष _____ में हुई थी।

- Ans 1. 1888
 2. 1868
 3. 1858
 4. 1878

Question Type : MCQ
Question ID : 264330137014
Option 1 ID : 264330536702
Option 2 ID : 264330536700
Option 3 ID : 264330536699
Option 4 ID : 264330536701
Status : Not Answered
Chosen Option : --

Q.24 किस बल के कारण पवनें उत्तरी गोलार्द्ध में दाहिनी ओर तथा दक्षिणी गोलार्द्ध में बाईं ओर विकेपित हो जाती हैं?

- Ans 1. कोरिआलिस बल
 2. चुंबकीय बल
 3. गुरुत्वाकर्षण बल
 4. घर्षण बल

Question Type : MCQ
Question ID : 264330137029
Option 1 ID : 264330536760
Option 2 ID : 264330536761
Option 3 ID : 264330536759
Option 4 ID : 264330536762
Status : Answered
Chosen Option : 1

Q.25 केंद्र सरकार की "पहल योजना (PAHAL Scheme)" _____ से संबंधित है।

- Ans 1. एलपीजी (LPG) सब्सिडी
 2. स्नानगृह निर्माण
 3. बालिका छात्रवृत्ति
 4. चिकित्सा सब्सिडी

Question Type : MCQ
Question ID : 264330137020
Option 1 ID : 264330536725
Option 2 ID : 264330536723
Option 3 ID : 264330536726
Option 4 ID : 264330536724
Status : Answered
Chosen Option : 3

Q.1 In the following question, out of the given four alternatives, select the alternative which best expresses the meaning of the Idiom/Phrase.

To fly into a rage

- Ans**
- 1. To get very angry
 - 2. To make inappropriate gestures
 - 3. To be very excited
 - 4. To harm oneself

Question Type : **MCQ**
Question ID : **264330135303**
Option 1 ID : **264330530125**
Option 2 ID : **264330530123**
Option 3 ID : **264330530124**
Option 4 ID : **264330530126**
Status : **Answered**
Chosen Option : **3**

Q.2 Select the appropriate synonym for the underlined word.

There are actually many different versions of “Cinderella.”

- Ans**
- 1. Signals
 - 2. Variations
 - 3. Problems
 - 4. Features

Question Type : **MCQ**
Question ID : **264330135298**
Option 1 ID : **264330530105**
Option 2 ID : **264330530103**
Option 3 ID : **264330530106**
Option 4 ID : **264330530104**
Status : **Answered**
Chosen Option : **2**

Q.3 Choose the sentence with no spelling error.

- Ans**
- 1. We can't blame a bad governmnet budget.
 - 2. We can't blamme a bad government buget.
 - 3. We can't blame a bad government budget.
 - 4. We can't blame a bad goverment budget.

Question Type : **MCQ**
Question ID : **264330136844**
Option 1 ID : **264330536067**
Option 2 ID : **264330536069**
Option 3 ID : **264330536068**
Option 4 ID : **264330536070**
Status : **Answered**
Chosen Option : **3**

Q.4 A sentence has been given with a blank to be filled with an appropriate option. Choose the correct alternative.

I have _____ to understand your problem.

- Ans**
- 1. begin
 - 2. begun
 - 3. beginning
 - 4. began

Question Type : **MCQ**
Question ID : **264330135288**
Option 1 ID : **264330530068**
Option 2 ID : **264330530069**
Option 3 ID : **264330530067**
Option 4 ID : **264330530070**
Status : **Answered**
Chosen Option : **2**

Q.5 Select the appropriate antonym for the underlined word.

Many children still do not have access to quality education that will harness their inherent abilities and talent.

- Ans**
- 1. handle
 - 2. exploit
 - 3. misapply
 - 4. direct

Question Type : **MCQ**
Question ID : **264330135301**
Option 1 ID : **264330530116**
Option 2 ID : **264330530115**
Option 3 ID : **264330530117**
Option 4 ID : **264330530118**
Status : **Answered**
Chosen Option : **1**

Q.6 A sentence has been given with a blank to be filled with an appropriate option. Choose the correct alternative.

The small amount of fusion fuel _____ to be heated to huge temperatures.

- Ans**
- 1. needing
 - 2. need
 - 3. needful
 - 4. needs

Question Type : **MCQ**
Question ID : **264330136880**
Option 1 ID : **264330536210**
Option 2 ID : **264330536208**
Option 3 ID : **264330536209**
Option 4 ID : **264330536207**
Status : **Answered**
Chosen Option : **4**

Q.7 Select the most appropriate option to fill in the blank.

His _____ of smoking in restaurants created a lot of issues in New York.

- Ans
- 1. habit
 - 2. reputation
 - 3. orbit
 - 4. hatred

Question Type : MCQ
Question ID : 264330136845
Option 1 ID : 264330536073
Option 2 ID : 264330536071
Option 3 ID : 264330536074
Option 4 ID : 264330536072
Status : Answered
Chosen Option : 1

Q.8 Find the part of the given sentence that has an error in it. If there is no error, choose 'No error'.

Largest farmers usually have more money, social power and local influence.

- Ans
- 1. No error
 - 2. Largest farmers usually
 - 3. and local influence.
 - 4. have more money, social power

Question Type : MCQ
Question ID : 264330135284
Option 1 ID : 264330530054
Option 2 ID : 264330530051
Option 3 ID : 264330530053
Option 4 ID : 264330530052
Status : Answered
Chosen Option : 4

Q.9 Improve the underlined part of the sentence. Choose 'No improvement' as an answer if the sentence is grammatically correct.

I have to work in the morning, but I is freer in the afternoon.

- Ans
- 1. am frees
 - 2. am free
 - 3. is freed
 - 4. No improvement

Question Type : MCQ
Question ID : 264330134531
Option 1 ID : 264330527084
Option 2 ID : 264330527085
Option 3 ID : 264330527083
Option 4 ID : 264330527086
Status : Answered
Chosen Option : 2

Q.10 Choose the word that can substitute the given group of words.
To renounce a throne

- Ans** 1. Abdicate
 2. Abort
 3. Assert
 4. Avow

Question Type : **MCQ**
Question ID : **264330134334**
Option 1 ID : **264330526326**
Option 2 ID : **264330526324**
Option 3 ID : **264330526325**
Option 4 ID : **264330526323**
Status : **Not Answered**
Chosen Option : --

Q.11 Select the most appropriate option to substitute the bracketed segment in the given sentence. If there is no need to substitute it, select 'no substitution required'.

Some of them were nearly (as hard as ligament, and many an inch in length).

- Ans** 1. hard as ligament, and many an inch at length
 2. as hard as ligaments, and many were an inch long
 3. as hard as a ligament, and many an inches in length
 4. No substitution required

Question Type : **MCQ**
Question ID : **264330136513**
Option 1 ID : **264330534797**
Option 2 ID : **264330534796**
Option 3 ID : **264330534795**
Option 4 ID : **264330534798**
Status : **Answered**
Chosen Option : **2**

Q.12 Identify the segment that contains a grammatical error. If there is no error, select 'No error'.

His struggles were becoming/ more and more frenzier,/ a wild look creeping into his blue eyes.

- Ans** 1. a wild look creeping into his blue eyes.
 2. His struggles were becoming
 3. more and more frenzier,
 4. No error

Question Type : **MCQ**
Question ID : **264330136510**
Option 1 ID : **264330534785**
Option 2 ID : **264330534783**
Option 3 ID : **264330534784**
Option 4 ID : **264330534786**
Status : **Answered**
Chosen Option : **3**

Q.13 Choose the incorrectly spelt word.

- Ans
- 1. Loss
 - 2. Loose
 - 3. Local
 - 4. Losare

Question Type : **MCQ**
Question ID : **264330135304**
Option 1 ID : **264330530129**
Option 2 ID : **264330530128**
Option 3 ID : **264330530130**
Option 4 ID : **264330530127**
Status : **Answered**
Chosen Option : **4**

Q.14 Find the part of the given sentence that has an error in it. If there is no error, choose 'No error'.

I want all the culprits to be punished immediate.

- Ans
- 1. the culprits to
 - 2. No error
 - 3. I want all
 - 4. be punished immediate.

Question Type : **MCQ**
Question ID : **264330134399**
Option 1 ID : **264330526576**
Option 2 ID : **264330526578**
Option 3 ID : **264330526575**
Option 4 ID : **264330526577**
Status : **Answered**
Chosen Option : **4**

Q.15 Choose the word that can substitute the given group of words.

A place where fruit trees are grown

- Ans
- 1. Cemetery
 - 2. Botanical
 - 3. Orchard
 - 4. Dyke

Question Type : **MCQ**
Question ID : **264330135297**
Option 1 ID : **264330530101**
Option 2 ID : **264330530100**
Option 3 ID : **264330530099**
Option 4 ID : **264330530102**
Status : **Answered**
Chosen Option : **2**

Q.16 Improve the underlined part of the sentence. Choose 'No improvement' as an answer if the sentence is grammatically correct.

The rise in temperature disturbs the rain cycle.

- Ans**
- ✓ 1. No improvement
 - ✗ 2. was disturbed the rain order
 - ✗ 3. disturb the rainy cycle
 - ✗ 4. disturbing the rain cycle

Question Type : **MCQ**
Question ID : **264330135313**
Option 1 ID : **264330530166**
Option 2 ID : **264330530165**
Option 3 ID : **264330530164**
Option 4 ID : **264330530163**
Status : **Answered**
Chosen Option : **1**

Q.17 Choose the word that is opposite in meaning to the given word.
Suspicion

- Ans**
- ✗ 1. Tremor
 - ✓ 2. Conviction
 - ✗ 3. Incertitude
 - ✗ 4. Niggle

Question Type : **MCQ**
Question ID : **264330134546**
Option 1 ID : **264330527142**
Option 2 ID : **264330527140**
Option 3 ID : **264330527139**
Option 4 ID : **264330527141**
Status : **Not Answered**
Chosen Option : **--**

Q.18 Select the most appropriate option to fill in the blank.

I am just saying that maybe you are letting emotion _____ your better judgment right now.

- Ans**
- ✓ 1. cloud
 - ✗ 2. clamp
 - ✗ 3. finger
 - ✗ 4. clog

Question Type : **MCQ**
Question ID : **264330135307**
Option 1 ID : **264330530140**
Option 2 ID : **264330530142**
Option 3 ID : **264330530139**
Option 4 ID : **264330530141**
Status : **Answered**
Chosen Option : **1**

Q.19 Choose the word that means the same as the given word.

Backstab

- Ans 1. Betray
 2. Berate
 3. Bleary
 4. Blare

Question Type : MCQ

Question ID : 264330136864

Option 1 ID : 264330536145

Option 2 ID : 264330536144

Option 3 ID : 264330536146

Option 4 ID : 264330536143

Status : Not Answered

Chosen Option : --

Q.20 In the following question, out of the given four alternatives, select the alternative which best expresses the meaning of the Idiom/Phrase.
To button one's lips

- Ans 1. To keep silence
 2. To kidnap somebody
 3. To advance in harmony
 4. To rain heavily

Question Type : MCQ

Question ID : 264330134340

Option 1 ID : 264330526349

Option 2 ID : 264330526350

Option 3 ID : 264330526347

Option 4 ID : 264330526348

Status : Answered

Chosen Option : 2

Comprehension:

In the following passage some of the words have been deleted. Read the passage carefully and select the correct answer for the given blank out of the four alternatives.

An 'occupational disease' is any disease (1)_____ primarily by exposure at work (2)_____ a physical, organisational, chemical or biological risk (3)_____ or to a combination of these factors. Occupational diseases are (4)_____ those listed in national legislation as resulting from exposure to risk factors at (5)_____.

SubQuestion No : 21

Q.21 Select the most appropriate option to fill in blank number 1.

- Ans 1. caused
 2. flawed
 3. posed
 4. abated

Question Type : MCQ

Question ID : 264330134537

Option 1 ID : 264330527104

Option 2 ID : 264330527105

Option 3 ID : 264330527106

Option 4 ID : 264330527103

Status : Answered

Chosen Option : 1

Comprehension:

In the following passage some of the words have been deleted. Read the passage carefully and select the correct answer for the given blank out of the four alternatives.

An 'occupational disease' is any disease (1)_____ primarily by exposure at work (2)_____ a physical, organisational, chemical or biological risk (3)_____ or to a combination of these factors. Occupational diseases are (4)_____ those listed in national legislation as resulting from exposure to risk factors at (5)_____.

SubQuestion No : 22

Q.22 Select the most appropriate option to fill in blank number 2.

- Ans 1. on
 2. in
 3. of
 4. to

Question Type : **MCQ**

Question ID : **264330134538**

Option 1 ID : **264330527110**

Option 2 ID : **264330527107**

Option 3 ID : **264330527108**

Option 4 ID : **264330527109**

Status : **Answered**

Chosen Option : **2**

Comprehension:

In the following passage some of the words have been deleted. Read the passage carefully and select the correct answer for the given blank out of the four alternatives.

An 'occupational disease' is any disease (1)_____ primarily by exposure at work (2)_____ a physical, organisational, chemical or biological risk (3)_____ or to a combination of these factors. Occupational diseases are (4)_____ those listed in national legislation as resulting from exposure to risk factors at (5)_____.

SubQuestion No : 23

Q.23 Select the most appropriate option to fill in blank number 3.

- Ans 1. maker
 2. part
 3. exposure
 4. factor

Question Type : **MCQ**

Question ID : **264330134539**

Option 1 ID : **264330527111**

Option 2 ID : **264330527114**

Option 3 ID : **264330527112**

Option 4 ID : **264330527113**

Status : **Answered**

Chosen Option : **4**

Comprehension:

In the following passage some of the words have been deleted. Read the passage carefully and select the correct answer for the given blank out of the four alternatives.

An 'occupational disease' is any disease (1)_____ primarily by exposure at work (2)_____ a physical, organisational, chemical or biological risk (3)_____ or to a combination of these factors. Occupational diseases are (4)_____ those listed in national legislation as resulting from exposure to risk factors at (5)_____.

SubQuestion No : 24

Q.24 Select the most appropriate option to fill in blank number 4.

- Ans 1. manually
 2. radically
 3. mostly
 4. oddly

Question Type : **MCQ**

Question ID : **264330134540**

Option 1 ID : **264330527115**

Option 2 ID : **264330527116**

Option 3 ID : **264330527118**

Option 4 ID : **264330527117**

Status : **Answered**

Chosen Option : **3**

Comprehension:

In the following passage some of the words have been deleted. Read the passage carefully and select the correct answer for the given blank out of the four alternatives.

An 'occupational disease' is any disease (1)_____ primarily by exposure at work (2)_____ a physical, organisational, chemical or biological risk (3)_____ or to a combination of these factors. Occupational diseases are (4)_____ those listed in national legislation as resulting from exposure to risk factors at (5)_____.

SubQuestion No : 25

Q.25 Select the most appropriate option to fill in blank number 5.

- Ans 1. home
 2. work
 3. office
 4. bank

Question Type : **MCQ**

Question ID : **264330134541**

Option 1 ID : **264330527120**

Option 2 ID : **264330527121**

Option 3 ID : **264330527122**

Option 4 ID : **264330527119**

Status : **Answered**

Chosen Option : **2**

Multi Tasking Non Technical Staff and Havaladar CBIC and CBN Examination 2022

Roll Number	KD Job Updates
Candidate Name	KD Job Updates
Venue Name	Vibrant Assessment Centre
Exam Date	17/05/2023
Exam Time	12:00 PM - 2:00 PM
Subject	MTS Non Tech Havaladar CBIC and CBN Examination 2022

Section : Numerical and Mathematical Ability

Q.1 साधारण ब्याज पर 20 वर्ष में कोई धनराशि कितने प्रतिशत वार्षिक दर पर तिगुनी हो जाएगी?

- Ans
- 1. 18% वार्षिक
 - 2. 10% वार्षिक
 - 3. 20% वार्षिक
 - 4. 12% वार्षिक

Question Type : MCQ

Question ID : 264330138358

Option 1 ID : 264330542042

Option 2 ID : 264330542039

Option 3 ID : 264330542040

Option 4 ID : 264330542041

Status : Answered

Chosen Option : 2

Q.2 15% का बड़ा देने के बाद, एक डीलर एक मोटर को Rs.3570 में बेचना चाहता है। मोटर का अंकित मूल्य क्या होना चाहिए?

- Ans
- 1. Rs.4000
 - 2. Rs.3900
 - 3. Rs.4800
 - 4. Rs.4200

Question Type : MCQ

Question ID : 264330133680

Option 1 ID : 264330523743

Option 2 ID : 264330523746

Option 3 ID : 264330523745

Option 4 ID : 264330523744

Status : Answered

Chosen Option : 4

Q.3 हानि प्रतिशत ज्ञात कीजिए यदि: क्रय मूल्य = Rs. 4500 और विक्रय मूल्य = Rs. 3900

- Ans 1. 13.3 %
 2. 14.5 %
 3. 14 %
 4. 13 %

Question Type : MCQ

Question ID : 264330135093

Option 1 ID : 264330529308

Option 2 ID : 264330529310

Option 3 ID : 264330529309

Option 4 ID : 264330529307

Status : Answered

Chosen Option : 1

Q.4 तीन कक्षाओं में छात्रों की संख्या 3:7:8 के अनुपात में है। यदि प्रत्येक कक्षा में 6 छात्रों की वृद्धि होती है, तो अनुपात 11:23:26 हो जाता है। वृद्धि से पहले तीनों कक्षाओं में छात्रों की कुल संख्या ज्ञात कीजिए।

- Ans 1. 162
 2. 144
 3. 90
 4. 112

Question Type : MCQ

Question ID : 264330135372

Option 1 ID : 264330530395

Option 2 ID : 264330530396

Option 3 ID : 264330530398

Option 4 ID : 264330530397

Status : Answered

Chosen Option : 4

Q.5 12 वर्षों में एक व्यक्ति द्वारा Rs.12000 के मूलधन पर प्राप्त साधारण ब्याज मूलधन का 120 प्रतिशत है। वार्षिक ब्याज दर क्या है?

- Ans 1. 5 प्रतिशत
 2. 12 प्रतिशत
 3. 20 प्रतिशत
 4. 10 प्रतिशत

Question Type : MCQ

Question ID : 264330137655

Option 1 ID : 264330539227

Option 2 ID : 264330539230

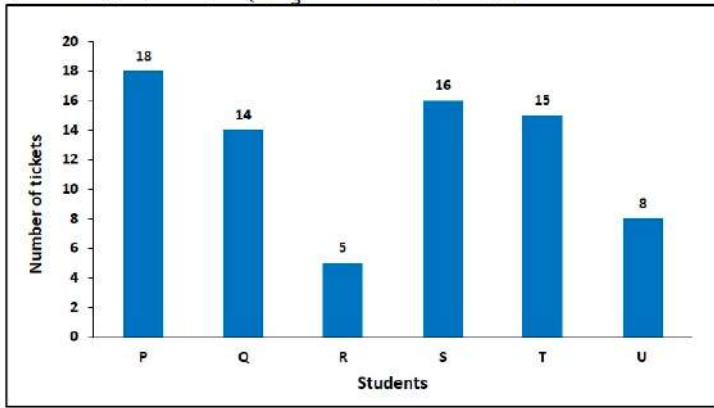
Option 3 ID : 264330539229

Option 4 ID : 264330539228

Status : Answered

Chosen Option : 4

Q.6 निम्नलिखित आलेख में एक मेले के दौरान 6 छात्रों P, Q, R, S, T और U द्वारा बेचे गए टिकटों की संख्या को दर्शाया गया है। Q, S और U द्वारा कुल टिकटों का कितना प्रतिशत बेचा गया?



Number of tickets = टिकटों की संख्या, Students = छात्र

- Ans
- 1. 40%
 - 2. 20%
 - 3. 50%
 - 4. 30%

Question Type : MCQ

Question ID : 264330133689

Option 1 ID : 264330523781

Option 2 ID : 264330523779

Option 3 ID : 264330523782

Option 4 ID : 264330523780

Status : Answered

Chosen Option : 3

Q.7 एक टीवी को Rs.39216 में बेचने पर राकेश को 4% की हानि होती है। 4% लाभ अर्जित करने के लिए टीवी को किस मूल्य पर बेचा जाना चाहिए?

- Ans
- 1. Rs.42484
 - 2. Rs.45600
 - 3. Rs.48560
 - 4. Rs.49780

Question Type : MCQ

Question ID : 264330133679

Option 1 ID : 264330523741

Option 2 ID : 264330523739

Option 3 ID : 264330523740

Option 4 ID : 264330523742

Status : Answered

Chosen Option : 2

Q.8 $0.4 \times 0.5 + 2 \times (0.10 - 0.5)$ का मान क्या है?

- Ans
- 1. 0.40
 - 2. 1
 - 3. 0
 - 4. -0.60

Question Type : MCQ
Question ID : 264330133673
Option 1 ID : 264330523715
Option 2 ID : 264330523717
Option 3 ID : 264330523718
Option 4 ID : 264330523716
Status : Answered
Chosen Option : 1

Q.9 एक घनाभ की विमाएँ 80 cm × 64 cm × 50 cm हैं। दिए गए घनाभ में 8 cm भुजा वाले कितने छोटे घन रखे जा सकते हैं?

- Ans
- 1. 1000
 - 2. 200
 - 3. 480
 - 4. 700

Question Type : MCQ
Question ID : 264330138720
Option 1 ID : 264330543487
Option 2 ID : 264330543488
Option 3 ID : 264330543490
Option 4 ID : 264330543489
Status : Answered
Chosen Option : 1

Q.10 पाँच घंटियाँ एक साथ बजने लगती हैं और क्रमशः 5, 10, 15, 20 और 25 सेकंड के अंतराल पर बजती हैं। 1 घंटे 20 मिनट में वे कितनी बार एक साथ बजती हैं?

- Ans
- 1. 20 बार
 - 2. 15 बार
 - 3. 14 बार
 - 4. 17 बार

Question Type : MCQ
Question ID : 264330138436
Option 1 ID : 264330542354
Option 2 ID : 264330542353
Option 3 ID : 264330542351
Option 4 ID : 264330542352
Status : Answered
Chosen Option : 4

Q.11 निम्न तालिका में विभिन्न कारखानों में स्कूटरों के वार्षिक उत्पादन (हजारों में) को दर्शाया गया है। किस वर्ष सभी कारखानों में स्कूटरों का कुल उत्पादन, वर्ष 2015-2019 के दौरान उत्पादित स्कूटरों की वार्षिक औसत संख्या के बराबर था?

Factory	Year				
	2015	2016	2017	2018	2019
A	25	30	15	23	16
B	14	24	12	17	20
C	20	41	17	21	13
D	40	39	35	32	41
E	16	15	22	15	12
Total	115	149	101	108	102

Factory = कारखाना, Year = वर्ष, Total = कुल

- Ans
- ✓ 1. 2015
 - ✗ 2. 2016
 - ✗ 3. 2017
 - ✗ 4. 2018

Question Type : MCQ
Question ID : 264330133688
Option 1 ID : 264330523775
Option 2 ID : 264330523776
Option 3 ID : 264330523777
Option 4 ID : 264330523778
Status : Answered
Chosen Option : 1

Q.12 40 km/hr की चाल से चल रही एक कार की चाल आधी दूरी तय करने के बाद 30 km/hr तक धीमी हो जाती है। कार की औसत चाल क्या है?

- Ans
- ✓ 1. $\frac{240}{7}$ km/hr
 - ✗ 2. $\frac{120}{7}$ km/hr
 - ✗ 3. 35 km/hr
 - ✗ 4. 30 km/hr

Question Type : MCQ
Question ID : 264330135091
Option 1 ID : 264330529299
Option 2 ID : 264330529302
Option 3 ID : 264330529300
Option 4 ID : 264330529301
Status : Answered
Chosen Option : 1

Q.13 A अकेले किसी कार्य को 16 दिनों में कर सकता है और B अकेले उसी कार्य को 12 दिनों में कर सकता है। यदि वे 4 दिनों तक साथ मिलकर कार्य करते हैं और फिर A कार्य छोड़कर चला जाता है, तो शेष कार्य को पूरा करने में B को कितना समय लगा?

- Ans
- 1. 6 दिन
 - 2. 8 दिन
 - 3. 5 दिन
 - 4. 7 दिन

Question Type : MCQ

Question ID : 264330138715

Option 1 ID : 264330543469

Option 2 ID : 264330543470

Option 3 ID : 264330543467

Option 4 ID : 264330543468

Status : Answered

Chosen Option : 3

Q.14 मिश्रधातु X में 70% तांबा और 30% जस्ता है। मिश्र धातु Y में 40% तांबा, 25% जस्ता और 35% एल्यूमीनियम है। मिश्रधातु X और Y को 1 : 3 के अनुपात में मिलाया जाता है। नई बनी मिश्रधातु में तांबे और जस्ते का अनुपात क्या है?

- Ans
- 1. 19 : 33
 - 2. 38 : 21
 - 3. 19 : 21
 - 4. 11 : 32

Question Type : MCQ

Question ID : 264330133682

Option 1 ID : 264330523753

Option 2 ID : 264330523754

Option 3 ID : 264330523751

Option 4 ID : 264330523752

Status : Answered

Chosen Option : 3

Q.15 8 cm त्रिज्या के एक ठोस अर्धगोले को पिघलाकर N समरूप शंकु बनाए जाते हैं, जिनकी त्रिज्या 4 cm और ऊँचाई 2 cm है। तो, N का मान क्या है?

- Ans
- 1. 26
 - 2. 25
 - 3. 32
 - 4. 10

Question Type : MCQ

Question ID : 264330135084

Option 1 ID : 264330529272

Option 2 ID : 264330529273

Option 3 ID : 264330529274

Option 4 ID : 264330529271

Status : Answered

Chosen Option : 3

Q.16 एक आदमी 5 kmph की चाल से चलकर 3 घंटे में एक निश्चित दूरी तय करता है। 15 kmph की चाल से दौड़ते हुए वह आदमी समान दूरी कितने समय में तय करेगा?

- Ans
- ✓ 1. 1 घंटे
 - ✗ 2. 30 मिनट
 - ✗ 3. 2 घंटे
 - ✗ 4. 1 घंटे 30 मिनट

Question Type : MCQ
Question ID : 264330133685
Option 1 ID : 264330523764
Option 2 ID : 264330523763
Option 3 ID : 264330523766
Option 4 ID : 264330523765
Status : Answered
Chosen Option : 1

Q.17 11 के पहले पाँच गुणजों का औसत क्या है?

- Ans
- ✗ 1. 11
 - ✓ 2. 33
 - ✗ 3. 55
 - ✗ 4. 22

Question Type : MCQ
Question ID : 264330133675
Option 1 ID : 264330523723
Option 2 ID : 264330523726
Option 3 ID : 264330523725
Option 4 ID : 264330523724
Status : Answered
Chosen Option : 2

Q.18 यदि एक वृत्त का व्यास 14 cm है, तो वृत्त के उस त्रिज्यखंड का क्षेत्रफल ज्ञात कीजिए जिसका केंद्रीय कोण 60 डिग्री है।

- Ans
- ✗ 1. 38.12 cm^2
 - ✓ 2. 25.66 cm^2
 - ✗ 3. 21.66 cm^2
 - ✗ 4. 18.12 cm^2

Question Type : MCQ
Question ID : 264330135387
Option 1 ID : 264330530456
Option 2 ID : 264330530458
Option 3 ID : 264330530457
Option 4 ID : 264330530455
Status : Answered
Chosen Option : 2

Q.19 14 व्यक्ति 28 दिनों में एक कार्य कर सकते हैं। 8 व्यक्ति इससे दुगने कार्य को कितने दिनों में पूरा कर सकते हैं?

- Ans
- 1. 80 दिनों में
 - 2. 32 दिनों में
 - 3. 98 दिनों में
 - 4. 55 दिनों में

Question Type : MCQ

Question ID : 264330135383

Option 1 ID : 264330530441

Option 2 ID : 264330530442

Option 3 ID : 264330530439

Option 4 ID : 264330530440

Status : Answered

Chosen Option : 1

Q.20 यदि एक संख्या A एक दूसरी संख्या B से 40 प्रतिशत कम है और B, 100 से 20 प्रतिशत अधिक है, तो A का मान क्या है?

- Ans
- 1. 84
 - 2. 72
 - 3. 66
 - 4. 58

Question Type : MCQ

Question ID : 264330137650

Option 1 ID : 264330539208

Option 2 ID : 264330539207

Option 3 ID : 264330539210

Option 4 ID : 264330539209

Status : Answered

Chosen Option : 1

Section : Reasoning Ability and Problem Solving

Q.1 छः भाइयों अमन, बंटी, चंद्र, दीपक, इमाद और फैजल, प्रत्येक का कद अलग-अलग है। बंटी केवल तीन भाइयों से लंबा है। फैजल केवल दीपक से लंबा है। चंद्र केवल अमन से छोटा है। सभी भाइयों में चौथा सबसे लंबा कौन है?

- Ans
- 1. इमाद
 - 2. चंद्र
 - 3. बंटी
 - 4. दीपक

Question Type : MCQ

Question ID : 264330133394

Option 1 ID : 264330522609

Option 2 ID : 264330522610

Option 3 ID : 264330522607

Option 4 ID : 264330522608

Status : Answered

Chosen Option : 3

Q.2 छः बहनें हिना, इशिता, जेना, कमला, ललिता, मीना दो पंक्तियों में बैठी हैं। उनमें से तीन का मुख उत्तर की ओर है और अन्य तीन का मुख दक्षिण की ओर है। एक ही पंक्ति में बैठी सभी बहनों का मुख समान दिशा की ओर है। मीना का मुख दक्षिण की ओर है और वह कोने में नहीं बैठी है। ललिता का मुख हिना की ओर है जो मीना के दायीं ओर बैठी है। इशिता, जेना के ठीक दाएँ पर है। इशिता के सम्मुख कौन बैठा है?

- Ans
- 1. हिना
 - 2. कमला
 - 3. ललिता
 - 4. मीना

Question Type : MCQ
Question ID : 264330133393
Option 1 ID : 264330522603
Option 2 ID : 264330522604
Option 3 ID : 264330522606
Option 4 ID : 264330522605
Status : Answered
Chosen Option : 4

Q.3 उस विकल्प को चुनिए जो तीसरे अक्षर-समूह से ठीक उसी प्रकार संबंधित है जिस प्रकार दूसरा अक्षर-समूह पहले अक्षर-समूह से संबंधित है।
TREE : USDD :: SOAP : ?

- Ans
- 1. TZPO
 - 2. TZNQ
 - 3. TPZO
 - 4. TNQZ


Question Type : MCQ
Question ID : 264330133388
Option 1 ID : 264330522584
Option 2 ID : 264330522583
Option 3 ID : 264330522586
Option 4 ID : 264330522585
Status : Answered
Chosen Option : 3

Q.4 किसी एक खास कूट भाषा में, 'SPEAKER' को 'RQDBJFQ' लिखा जाता है। उस कूट भाषा में 'MOBILE' को कैसे लिखा जाएगा?

- Ans
- 1. LSPJKS
 - 2. LPSJAK
 - 3. LPAJKS
 - 4. LPAJKF

Question Type : MCQ
Question ID : 264330133369
Option 1 ID : 264330522509
Option 2 ID : 264330522507
Option 3 ID : 264330522510
Option 4 ID : 264330522508
Status : Answered
Chosen Option : 4

Q.5 उस विकल्प आकृति को चुनिए जो नीचे दी गई आकृति में पैटर्न को पूरा करने के लिए प्रश्न चिन्ह (?) के स्थान पर आएगी। (घूर्णन की अनुमति नहीं है)।



Ans

- ✗ 1.
- ✓ 2.
- ✗ 3.
- ✗ 4.

Question Type : **MCQ**

Question ID : **264330133405**

Option 1 ID : **264330522652**

Option 2 ID : **264330522651**

Option 3 ID : **264330522654**

Option 4 ID : **264330522653**

Status : **Answered**

Chosen Option : **2**

Q.6 दी गई श्रृंखला में निम्नलिखित में से कौन-सी संख्या प्रश्न चिन्ह (?) के स्थान पर आएगी?
158, 160, 164, 170, 178, 188, 200, ?

- ✗ 1. **230**
- ✗ 2. **210**
- ✗ 3. **215**
- ✓ 4. **214**

Question Type : **MCQ**

Question ID : **264330133398**

Option 1 ID : **264330522624**

Option 2 ID : **264330522623**

Option 3 ID : **264330522625**

Option 4 ID : **264330522626**

Status : **Answered**

Chosen Option : **4**

Q.7 दो कथन दिए गए हैं और उनके बाद दो निष्कर्ष I और II दिए गए हैं। कथनों को सत्य मानते हुए, चाहे वे सामान्यतः जात तथ्यों से अलग प्रतीत होते हों, निश्चय कीजिए कि कौन-सा निष्कर्ष तार्किक रूप से कथनों के अनुसार है।
कथन:

कुछ राजा, अमीर हैं।

कुछ अमीर, अभिमानी हैं।

निष्कर्ष:

I. कुछ राजा, अभिमानी नहीं हैं।

II. कुछ अमीर, अभिमानी नहीं हैं।

Ans

- ✓ 1. न तो निष्कर्ष I और न ही II कथनों के अनुसार है।
- ✗ 2. केवल निष्कर्ष II कथनों के अनुसार है।
- ✗ 3. निष्कर्ष I और II दोनों कथनों के अनुसार हैं।
- ✗ 4. केवल निष्कर्ष I कथनों के अनुसार है।

Question Type : **MCQ**

Question ID : **264330133395**

Option 1 ID : **264330522614**

Option 2 ID : **264330522612**

Option 3 ID : **264330522613**

Option 4 ID : **264330522611**

Status : **Answered**

Chosen Option : **2**

Q.8 एक निश्चित कूट भाषा में, 'FALF' को 'HCJD' लिखा जाता है। उस भाषा में 'OEMC' को कैसे लिखा जाएगा?

Ans

- ✗ 1. QKGA
- ✓ 2. QGKA
- ✗ 3. QKAG
- ✗ 4. QGAK

Question Type : **MCQ**

Question ID : **264330137565**

Option 1 ID : **264330538869**

Option 2 ID : **264330538870**

Option 3 ID : **264330538867**

Option 4 ID : **264330538868**

Status : **Answered**

Chosen Option : **2**

Q.9 उस विकल्प को चुनिए जो तीसरी संख्या से ठीक उसी प्रकार संबंधित है जिस प्रकार दूसरी संख्या पहली संख्या से संबंधित है।

5 : 125 :: 8 : ?

- Ans
- 1. 216
 - 2. 343
 - 3. 576
 - 4. 512

Question Type : MCQ

Question ID : 264330137574

Option 1 ID : 264330538905

Option 2 ID : 264330538903

Option 3 ID : 264330538906

Option 4 ID : 264330538904

Status : Answered

Chosen Option : 4

Q.10 दी गई श्रृंखला में निम्नलिखित में से कौन-सी संख्या प्रश्न चिन्ह (?) के स्थान पर आएगी?

15, 16, 32, 35, 140, 145, ?

- Ans
- 1. 790
 - 2. 910
 - 3. 840
 - 4. 870

Question Type : MCQ

Question ID : 264330137572

Option 1 ID : 264330538897

Option 2 ID : 264330538898

Option 3 ID : 264330538896

Option 4 ID : 264330538895

Status : Answered

Chosen Option : 4

Q.11 छः महिलाएँ अदिति, पिकी, रीना, मीनल, स्नेहा और ज़ोया एक सीधी पंक्ति में उत्तर की ओर मुख करके बैठी हैं। स्नेहा और ज़ोया मध्य में बैठी हैं। अदिति और पिकी दोनों कोनों पर बैठी हैं। रीना, अदिति के ठीक बाएँ पर बैठी है। पिकी के ठीक दाएँ पर कौन बैठा है?

- Ans
- 1. ज़ोया
 - 2. स्नेहा
 - 3. मीनल
 - 4. अदिति

Question Type : MCQ

Question ID : 264330133392

Option 1 ID : 264330522599

Option 2 ID : 264330522601

Option 3 ID : 264330522600

Option 4 ID : 264330522602

Status : Answered

Chosen Option : 3

Q.12 उस विकल्प को चुनिए जो तीसरे अक्षर-समूह से ठीक उसी प्रकार संबंधित है जिस प्रकार दूसरा अक्षर-समूह पहले शब्द से संबंधित है।

KITCHEN : TIKCNEH :: PLUMBER : ?

- Ans
- 1. ULPRMBE
 - 2. ULPBREM
 - 3. ULPMREB
 - 4. ULPREMB

Question Type : MCQ

Question ID : 264330133387

Option 1 ID : 264330522581

Option 2 ID : 264330522582

Option 3 ID : 264330522580

Option 4 ID : 264330522579

Status : Answered

Chosen Option : 3

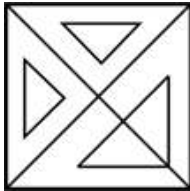
Q.13 उस विकल्प आकृति को चुनिए जिसमें दी गई आकृति (X) उसके भाग के रूप में निहित है (घूर्णन की अनुमति नहीं है)।



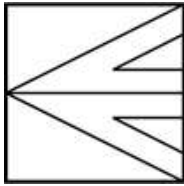
X

Ans

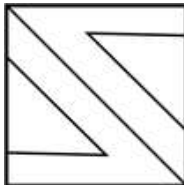
1.



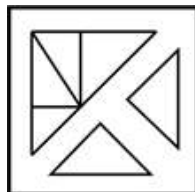
2.



3.



4.



Question Type : MCQ

Question ID : 264330133403

Option 1 ID : 264330522645

Option 2 ID : 264330522643

Option 3 ID : 264330522644

Option 4 ID : 264330522646

Status : Answered

Chosen Option : 4

Q.14 दिए गए समीकरण को सही करने के लिए किन दो संख्याओं को आपस में बदला जाना चाहिए?
 $84 \div 6 + 16 - 14 \times 2 = 10$

- Ans
- ✓ 1. 6 और 14
 - ✗ 2. 10 और 14
 - ✗ 3. 6 और 10
 - ✗ 4. 2 और 84

Question Type : MCQ
Question ID : 264330133401
Option 1 ID : 264330522637
Option 2 ID : 264330522635
Option 3 ID : 264330522638
Option 4 ID : 264330522636
Status : Answered
Chosen Option : 1

Q.15 दिए गए दो चिन्हों को आपस में बदलने पर, समीकरण (I) और (II) के क्रमशः मान क्या होंगे?

× और -

I. $18 \times 8 - 6 \div 3 + 4$

II. $7 - 8 \times 4 \div 2 + 15$

- Ans
- ✗ 1. 18 और 10
 - ✓ 2. 6 और 69
 - ✗ 3. -8 और 10
 - ✗ 4. 89 और 6

Question Type : MCQ
Question ID : 264330138473
Option 1 ID : 264330542501
Option 2 ID : 264330542499
Option 3 ID : 264330542500
Option 4 ID : 264330542502
Status : Answered
Chosen Option : 2

Q.16 दिए गए पैटर्न का ध्यानपूर्वक अध्ययन कीजिए और उस संख्या को चुनिए जो इसमें प्रश्न चिन्ह (?) के स्थान पर आ सकती है।
पहली पंक्ति- 6, 216, 180
दूसरी पंक्ति- 8, 512, 448
तीसरी पंक्ति- 10, 1000, ?

- Ans
- ✗ 1. 1100
 - ✓ 2. 900
 - ✗ 3. 1300
 - ✗ 4. 800

Question Type : MCQ
Question ID : 264330133400
Option 1 ID : 264330522631
Option 2 ID : 264330522633
Option 3 ID : 264330522634
Option 4 ID : 264330522632
Status : Answered
Chosen Option : 2

Q.17 निम्नलिखित में से कौन-सा अक्षर-समूह दी गई श्रृंखला में रिक्त स्थानों को पूरा करेगा?
stss_ssstsss_tss__stssssst

- Ans
- 1. ttss
 - 2. sstt
 - 3. ssst
 - 4. tsss

Question Type : MCQ

Question ID : 264330133386

Option 1 ID : 264330522578

Option 2 ID : 264330522575

Option 3 ID : 264330522576

Option 4 ID : 264330522577

Status : Answered

Chosen Option : 4

Q.18 दो कथन दिए गए हैं और उनके बाद दो निष्कर्ष I और II दिए गए हैं। कथनों को सत्य मानते हुए, चाहे वे सामान्यतः जात तथ्यों से अलग प्रतीत होते हों, निश्चय कीजिए कि कौन-सा निष्कर्ष तार्किक रूप से कथनों के अनुसार है।
कथन:

कोई लड़की, घोड़ा नहीं है।

रेचेल, लड़की है।

निष्कर्ष:

I. रेचेल, घोड़ा नहीं है।

II. सभी लड़कियाँ, रेचेल नहीं हैं।

- Ans
- 1. केवल निष्कर्ष I कथनों के अनुसार है।
 - 2. निष्कर्ष I और II दोनों कथनों के अनुसार हैं।
 - 3. केवल निष्कर्ष II कथनों के अनुसार है।
 - 4. न तो निष्कर्ष I और न ही II कथनों के अनुसार है।

Question Type : MCQ

Question ID : 264330133396

Option 1 ID : 264330522615

Option 2 ID : 264330522617

Option 3 ID : 264330522616

Option 4 ID : 264330522618

Status : Answered

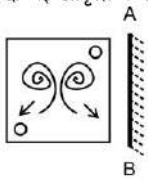
Chosen Option : 2

Q.19 एक निश्चित कूट भाषा में, 'HERO' को '7, 4, 17, 14' लिखा जाता है, 'ICON' को '8, 2, 14, 13' लिखा जाता है।
उस कूट भाषा में 'JOIN' को कैसे लिखा जाएगा?

- Ans
- ✗ 1. 8, 14, 9, 13
 - ✗ 2. 10, 14, 8, 13
 - ✓ 3. 9, 14, 8, 13
 - ✗ 4. 9, 14, 9, 13

Question Type : MCQ
 Question ID : 264330138503
 Option 1 ID : 264330542622
 Option 2 ID : 264330542619
 Option 3 ID : 264330542621
 Option 4 ID : 264330542620
 Status : Answered
 Chosen Option : 3

Q.20 दी गई आकृति के उस सही दर्पण प्रतिबिंब को चुनिए जो नीचे दर्शाए गए अनुसार दर्पण को AB पर रखने पर बनेगा।



Ans

- ✓ 1.
- ✗ 2.
- ✗ 3.
- ✗ 4.

Question Type : MCQ
 Question ID : 264330133404
 Option 1 ID : 264330522648
 Option 2 ID : 264330522647
 Option 3 ID : 264330522650
 Option 4 ID : 264330522649
 Status : Answered
 Chosen Option : 1

Q.1 छः दिवसीय खजुराहो नृत्य उत्सव निम्नलिखित में से किस राज्य में मनाया जाता है?

- Ans
- 1. हरियाणा
 - 2. केरल
 - 3. मध्यप्रदेश
 - 4. असम

Question Type : MCQ
Question ID : 264330133882
Option 1 ID : 264330524551
Option 2 ID : 264330524553
Option 3 ID : 264330524552
Option 4 ID : 264330524554
Status : Not Answered
Chosen Option : --

Q.2 कुमारी कमला को 1970 में पद्म भूषण से सम्मानित किया गया था। वह नृत्य की _____ परंपरा की एक श्रेष्ठ कलाकार हैं।

- Ans
- 1. वजुवूर (Vazhuvoor)
 - 2. तमज़ारा (Tamzara)
 - 3. कुचिपुड़ी
 - 4. कुर्दिश (Kurdish)

Question Type : MCQ
Question ID : 264330137755
Option 1 ID : 264330539629
Option 2 ID : 264330539627
Option 3 ID : 264330539628
Option 4 ID : 264330539630
Status : Answered
Chosen Option : 3

Q.3 मर्डेका (Merdeka) कप निम्नलिखित में से किस खेल से संबंधित है?

- Ans
- 1. हॉकी
 - 2. फुटबॉल
 - 3. गोल्फ़
 - 4. शतरंज

Question Type : MCQ
Question ID : 264330137759
Option 1 ID : 264330539645
Option 2 ID : 264330539643
Option 3 ID : 264330539644
Option 4 ID : 264330539646
Status : Answered
Chosen Option : 2

Q.4 निम्नलिखित में से किसने जयपुर में हवा महल का निर्माण करवाया था?

- Ans
- 1. कृष्णराजेंद्र वाडियार चतुर्थ
 - 2. राजा मानसिंह प्रथम
 - 3. महाराजा नरिंदर सिंह
 - 4. महाराजा सवाई प्रताप सिंह

Question Type : MCQ
Question ID : 264330138225
Option 1 ID : 264330541507
Option 2 ID : 264330541510
Option 3 ID : 264330541508
Option 4 ID : 264330541509
Status : Not Answered
Chosen Option : --

Q.5 निम्नलिखित में से किस शासक ने 'देवपुत्र (devaputra)' की उपाधि धारण की थी?

- Ans
- 1. होयसल (Hoyasala)
 - 2. कुषाण
 - 3. चोल
 - 4. शक (Saka)

Question Type : MCQ
Question ID : 264330137750
Option 1 ID : 264330539608
Option 2 ID : 264330539610
Option 3 ID : 264330539609
Option 4 ID : 264330539607
Status : Not Answered
Chosen Option : --

Q.6 वधावन (Vadhavan) बंदरगाह _____ में स्थित है।

- Ans
- 1. तमिलनाडु
 - 2. पश्चिम बंगाल
 - 3. केरल
 - 4. महाराष्ट्र

Question Type : MCQ
Question ID : 264330137745
Option 1 ID : 264330539588
Option 2 ID : 264330539587
Option 3 ID : 264330539590
Option 4 ID : 264330539589
Status : Answered
Chosen Option : 2

Q.7 फिजियोलॉजी या मेडिसिन में 2022 का नोबेल पुरस्कार _____ को दिया गया है।

- Ans
- 1. वलेरी पोल्याकोव (Valeri Polyakov)
 - 2. स्वंते पाबो (Svante Paabo)
 - 3. एलेस बियालियात्स्की (Ales Bialiatski)
 - 4. जियोर्जिया मेलोनी (Giorgia Meloni)

Question Type : MCQ
Question ID : 264330133889
Option 1 ID : 264330524581
Option 2 ID : 264330524580
Option 3 ID : 264330524582
Option 4 ID : 264330524579
Status : Not Answered
Chosen Option : --

Q.8 निम्नलिखित में से कौन-सा भारतीय दर्शन के छः पद्धतियों का हिस्सा नहीं है?

- Ans
- 1. सांख्य
 - 2. द्रविड़
 - 3. योग
 - 4. न्याय

Question Type : MCQ
Question ID : 264330133902
Option 1 ID : 264330524633
Option 2 ID : 264330524634
Option 3 ID : 264330524632
Option 4 ID : 264330524631
Status : Answered
Chosen Option : 4

Q.9 "इंडिया एट रिस्क (India at Risk)" निम्नलिखित में से किस लेखक द्वारा लिखी गई है?

- Ans
- 1. जसवंत सिंह
 - 2. विजय दर्डा (Vijay Darda)
 - 3. खुशवंत सिंह
 - 4. नटवर सिंह

Question Type : MCQ
Question ID : 264330137753
Option 1 ID : 264330539621
Option 2 ID : 264330539620
Option 3 ID : 264330539619
Option 4 ID : 264330539622
Status : Not Answered
Chosen Option : --

Q.10 अंतर्राष्ट्रीय योग दिवस (2022) का विषय क्या था?

- Ans
- 1. स्वस्थ शरीर के लिए योग
 - 2. स्वस्थ मस्तिष्क के लिए योग
 - 3. बेहतर जीवन के लिए योग
 - 4. मानवता के लिए योग

Question Type : MCQ
Question ID : 264330133890
Option 1 ID : 264330524584
Option 2 ID : 264330524583
Option 3 ID : 264330524585
Option 4 ID : 264330524586
Status : Answered
Chosen Option : 1

Q.11 बास्केटबॉल खेल दो टीमों के बीच खेला जाता है जिसमें प्रत्येक टीम में _____ खिलाड़ी होते हैं।

- Ans
- 1. आठ
 - 2. छः
 - 3. पाँच
 - 4. चार

Question Type : MCQ
Question ID : 264330133884
Option 1 ID : 264330524562
Option 2 ID : 264330524560
Option 3 ID : 264330524559
Option 4 ID : 264330524561
Status : Answered
Chosen Option : 2

Q.12 भारत में पहली जनसंख्या जनगणना वर्ष _____ में आयोजित की गई थी।

- Ans
- 1. 1865
 - 2. 1870
 - 3. 1872
 - 4. 1862

Question Type : MCQ
Question ID : 264330133875
Option 1 ID : 264330524525
Option 2 ID : 264330524523
Option 3 ID : 264330524524
Option 4 ID : 264330524526
Status : Answered
Chosen Option : 1

Q.13 श्री दीपक मजूमदार को वर्ष _____ का संगीत नाटक अकादमी पुरस्कार मिला।

- Ans
- 1. 2017
 - 2. 2018
 - 3. 2016
 - 4. 2019

Question Type : MCQ
Question ID : 264330133881
Option 1 ID : 264330524548
Option 2 ID : 264330524549
Option 3 ID : 264330524547
Option 4 ID : 264330524550
Status : Not Answered
Chosen Option : --

Q.14 _____ के नियम के अनुसार, किसी विद्युत धारा द्वारा उत्पन्न ऊष्मा, चालक के प्रतिरोध, धारा के वर्ग और धारा प्रवाह की समयावधि के समानुपाती होती है।

- Ans
- 1. फैराडे
 - 2. हुक
 - 3. जूल
 - 4. चार्ल्स

Question Type : MCQ
Question ID : 264330137741
Option 1 ID : 264330539573
Option 2 ID : 264330539572
Option 3 ID : 264330539571
Option 4 ID : 264330539574
Status : Answered
Chosen Option : 1

Q.15 अन्नपूर्णा देवी किस वाद्य यंत्र का अभ्यास करने के लिए जानी जाती थीं?

- Ans
- 1. वायलिन
 - 2. सुरबहार
 - 3. बाँसुरी
 - 4. सरोद

Question Type : MCQ
Question ID : 264330133887
Option 1 ID : 264330524571
Option 2 ID : 264330524572
Option 3 ID : 264330524573
Option 4 ID : 264330524574
Status : Not Answered
Chosen Option : --

Q.16 निम्नलिखित में से किस अनुच्छेद में, "अल्पसंख्यक-वर्गों को अपनी रूचि की शिक्षण संस्थाओं की स्थापना करने और संचालन करने के अधिकार" का उल्लेख किया गया है?

- Ans
- ✓ 1. अनुच्छेद 30
 - ✗ 2. अनुच्छेद 29
 - ✗ 3. अनुच्छेद 28
 - ✗ 4. अनुच्छेद 31

Question Type : MCQ
Question ID : 264330133893
Option 1 ID : 264330524597
Option 2 ID : 264330524596
Option 3 ID : 264330524595
Option 4 ID : 264330524598
Status : Answered
Chosen Option : 2

Q.17 मध्यस्थता विधेयक (Mediation Bill), 2021 के अनुसार, मध्यस्थता प्रक्रिया को 180 दिनों के भीतर पूरा किया जाना चाहिए, जिसे पक्षों द्वारा और _____ दिनों तक बढ़ाया जा सकता है।

- Ans
- ✗ 1. 200
 - ✗ 2. 220
 - ✗ 3. 120
 - ✓ 4. 180

Question Type : MCQ
Question ID : 264330138222
Option 1 ID : 264330541497
Option 2 ID : 264330541498
Option 3 ID : 264330541495
Option 4 ID : 264330541496
Status : Answered
Chosen Option : 2

Q.18 कुइपर बेल्ट (Kuiper Belt) _____ की कक्षा के ठीक बाहर मौजूद बर्फ की चट्टानों और धूल के पिंडों का एक छल्ला है।

- Ans
- ✗ 1. शनि
 - ✗ 2. बृहस्पति
 - ✓ 3. नेपच्यून
 - ✗ 4. शुक्र

Question Type : MCQ
Question ID : 264330137744
Option 1 ID : 264330539585
Option 2 ID : 264330539583
Option 3 ID : 264330539584
Option 4 ID : 264330539586
Status : Answered
Chosen Option : 4

Q.19 वित्त मंत्री निर्मला सीतारमण ने केंद्रीय बजट 2022 पेश करते हुए कहा कि भारत की आर्थिक विकास दर मौजूदा वित्त वर्ष में _____ प्रतिशत की दर से बढ़ रही है।

- Ans
- 1. 5.3
 - 2. 9.2
 - 3. 6.5
 - 4. 7.4

Question Type : MCQ
Question ID : 264330137760
Option 1 ID : 264330539648
Option 2 ID : 264330539647
Option 3 ID : 264330539650
Option 4 ID : 264330539649
Status : Answered
Chosen Option : 3

Q.20 एक वर्ष के दौरान वायु की दिशा में ऋतु के अनुसार परिवर्तन को _____ कहते हैं।

- Ans
- 1. मानसून
 - 2. जलवायु
 - 3. उत्सर्जन
 - 4. समीर

Question Type : MCQ
Question ID : 264330133899
Option 1 ID : 264330524622
Option 2 ID : 264330524620
Option 3 ID : 264330524621
Option 4 ID : 264330524619
Status : Answered
Chosen Option : 1

Q.21 कंचनजुंगा जीव मंडल निचय (आरक्षित क्षेत्र) निम्नलिखित में से किस राज्य में स्थित है?

- Ans
- 1. केरल
 - 2. असम
 - 3. मणिपुर
 - 4. सिक्किम

Question Type : MCQ
Question ID : 264330137743
Option 1 ID : 264330539580
Option 2 ID : 264330539579
Option 3 ID : 264330539581
Option 4 ID : 264330539582
Status : Answered
Chosen Option : 2

Q.22 मराठी समाचार पत्र "केसरी (Kesari)" के संपादक _____ थे।

- Ans
- ✓ 1. बाल गंगाधर तिलक
 - ✗ 2. लाला लाजपत राय
 - ✗ 3. बिपिन चंद्र पाल
 - ✗ 4. अरबिंदो घोष

Question Type : MCQ
Question ID : 264330133905
Option 1 ID : 264330524644
Option 2 ID : 264330524643
Option 3 ID : 264330524645
Option 4 ID : 264330524646
Status : Answered
Chosen Option : 2

Q.23 नीति आयोग (NITI Aayog) के पहले राष्ट्रीय बहुआयामी गरीबी सूचकांक के अनुसार, किस राज्य में गरीब लोगों की संख्या का प्रतिशत सबसे अधिक है?

- Ans
- ✗ 1. उत्तरप्रदेश
 - ✓ 2. बिहार
 - ✗ 3. झारखंड
 - ✗ 4. मध्यप्रदेश

Question Type : MCQ
Question ID : 264330137407
Option 1 ID : 264330538256
Option 2 ID : 264330538257
Option 3 ID : 264330538255
Option 4 ID : 264330538258
Status : Answered
Chosen Option : 2

Q.24 इल्बर्ट बिल लॉर्ड रिपन के कार्यकाल के दौरान सन् _____ में भारतीय और यूरोपीय न्यायाधीशों के बीच समानता स्थापित करने के लिए पारित किया गया था

- Ans
- ✗ 1. 1876
 - ✗ 2. 1871
 - ✓ 3. 1883
 - ✗ 4. 1892

Question Type : MCQ
Question ID : 264330138236
Option 1 ID : 264330541551
Option 2 ID : 264330541554
Option 3 ID : 264330541552
Option 4 ID : 264330541553
Status : Answered
Chosen Option : 2

Q.25 पत्ती के चपटे हरे भाग को _____ कहते हैं।

- Ans
- 1. मध्य शिरा
 - 2. फलक
 - 3. शिरा
 - 4. पर्णवृंत

Question Type : MCQ
Question ID : 264330133894
Option 1 ID : 264330524602
Option 2 ID : 264330524601
Option 3 ID : 264330524600
Option 4 ID : 264330524599
Status : Answered
Chosen Option : 4

Section : English Language and Comprehension

Q.1 Select the most appropriate antonym of the given word.

Culpable

- Ans
- 1. Edible
 - 2. Rigorous
 - 3. Innocent
 - 4. Reasonable

Question Type : MCQ
Question ID : 264330136605
Option 1 ID : 264330535147
Option 2 ID : 264330535149
Option 3 ID : 264330535150
Option 4 ID : 264330535148
Status : Not Answered
Chosen Option : --

Q.2 Select the most appropriate word for the given group of words.

A large, tall cupboard in which clothes may be hung or stored

- Ans
- 1. Hypergamy
 - 2. Honorary
 - 3. Wardrobe
 - 4. Gibber

Question Type : MCQ
Question ID : 264330136097
Option 1 ID : 264330533197
Option 2 ID : 264330533198
Option 3 ID : 264330533196
Option 4 ID : 264330533195
Status : Answered
Chosen Option : 3

Q.3 In the following question, out of the given four alternatives, select the alternative which best expresses the meaning of the Idiom/Phrase.
To bear the brunt of

- Ans 1. To endure the impact of something
 2. To become free from
 3. For one's sake
 4. An inexperienced person

Question Type : **MCQ**
Question ID : **264330134367**
Option 1 ID : **264330526453**
Option 2 ID : **264330526452**
Option 3 ID : **264330526451**
Option 4 ID : **264330526454**
Status : **Answered**
Chosen Option : 1

Q.4 Improve the underlined part of the sentence. Choose 'No improvement' as an answer if the sentence is grammatically correct.
Dr. Mark said I can came to his office on Friday or Saturday of next week.

- Ans 1. come to his office on
 2. No improvement
 3. comes to his office in
 4. coming to his office at

Question Type : **MCQ**
Question ID : **264330134351**
Option 1 ID : **264330526391**
Option 2 ID : **264330526394**
Option 3 ID : **264330526393**
Option 4 ID : **264330526392**
Status : **Answered**
Chosen Option : 1

Q.5 Select the most appropriate option to fill in the blank.
He _____ his teeth against the curse on his tongue.

- Ans 1. unclasped
 2. clenched
 3. dropped
 4. yielded

Question Type : **MCQ**
Question ID : **264330134371**
Option 1 ID : **264330526468**
Option 2 ID : **264330526469**
Option 3 ID : **264330526470**
Option 4 ID : **264330526467**
Status : **Answered**
Chosen Option : 4

Q.6 Identify the segment that contains a grammatical error. If there is no error, select 'No error'.
And how amorous you become / when your courtship with the / muses is going stronger.

- Ans**
- 1. And how amorous you become
 - 2. muses is going stronger.
 - 3. No Error
 - 4. when your courtship with the

Question Type : **MCQ**
Question ID : **264330135794**
Option 1 ID : **264330532051**
Option 2 ID : **264330532053**
Option 3 ID : **264330532054**
Option 4 ID : **264330532052**
Status : **Answered**
Chosen Option : **1**

Q.7 Improve the underlined part of the sentence. Choose 'No improvement' as an answer if the sentence is grammatically correct.
The sea wall protected the village in the waves.

- Ans**
- 1. village through
 - 2. village by
 - 3. village from
 - 4. No improvement

Question Type : **MCQ**
Question ID : **264330134323**
Option 1 ID : **264330526284**
Option 2 ID : **264330526285**
Option 3 ID : **264330526283**
Option 4 ID : **264330526286**
Status : **Answered**
Chosen Option : **1**

Q.8 Find the part of the given sentence that has an error in it. If there is no error, choose 'No error'.
You can find these books into the extreme corner of this shelf.

- Ans**
- 1. No error
 - 2. corner of this shelf.
 - 3. books into the extreme
 - 4. You can find these

Question Type : **MCQ**
Question ID : **264330134348**
Option 1 ID : **264330526382**
Option 2 ID : **264330526381**
Option 3 ID : **264330526380**
Option 4 ID : **264330526379**
Status : **Answered**
Chosen Option : **1**

Q.9 Select the most appropriate meaning of the given idiom.

Between a rock and a hard place

Ans 1.

Avoiding the main topic, not speaking directly about the issue

2. Stuck between two very bad options

3. Willing to do anything

4. On the point of achievement

Question Type : MCQ

Question ID : 264330136103

Option 1 ID : 264330533222

Option 2 ID : 264330533221

Option 3 ID : 264330533219

Option 4 ID : 264330533220

Status : Answered

Chosen Option : 1

Q.10 Select the appropriate antonym for the underlined word.

A mysterious glowing girl has informed him of the death.

Ans 1. evident

2. cryptic

3. critical

4. murky

Question Type : MCQ

Question ID : 264330134365

Option 1 ID : 264330526446

Option 2 ID : 264330526444

Option 3 ID : 264330526445

Option 4 ID : 264330526443

Status : Answered

Chosen Option : 3

Q.11 Choose the word that can substitute the given group of words.

One who is 100 years old or older

Ans 1. Sententia

2. Immortal

3. Mortal

4. Centenarian

Question Type : MCQ

Question ID : 264330134361

Option 1 ID : 264330526429

Option 2 ID : 264330526428

Option 3 ID : 264330526430

Option 4 ID : 264330526427

Status : Answered

Chosen Option : 3

Q.12 Select the appropriate synonym for the underlined word.
John says, "I am serious."

- Ans 1. comical
 2. light
 3. safe
 4. severe

Question Type : **MCQ**
Question ID : **264330134362**
Option 1 ID : **264330526433**
Option 2 ID : **264330526434**
Option 3 ID : **264330526431**
Option 4 ID : **264330526432**
Status : **Answered**
Chosen Option : **2**

Q.13 Choose the sentence with no spelling error.

- Ans 1. He wondared about lots of things.
 2. He wondered about lotts of things.
 3. He wondered about lots of things.
 4. He wondered about lots of thinggs.

Question Type : **MCQ**
Question ID : **264330134369**
Option 1 ID : **264330526461**
Option 2 ID : **264330526460**
Option 3 ID : **264330526462**
Option 4 ID : **264330526459**
Status : **Answered**
Chosen Option : **3**

Q.14 A sentence has been given with a blank to be filled with an appropriate option. Choose the correct alternative.
The royal messengers _____ out last night.

- Ans 1. goes
 2. gone
 3. go
 4. went

Question Type : **MCQ**
Question ID : **264330134352**
Option 1 ID : **264330526395**
Option 2 ID : **264330526397**
Option 3 ID : **264330526398**
Option 4 ID : **264330526396**
Status : **Answered**
Chosen Option : **4**

Q.15 Find the part of the given sentence that has an error in it. If there is no error, choose 'No error'.

Mothers can pass the HIV virus to their newborns during delivery as well, WHO says.

- Ans**
- 1. Mothers can pass the HIV virus to
 - 2. No error
 - 3. their newborns during delivery
 - 4. as well, WHO says.

Question Type : **MCQ**
Question ID : **264330135178**
Option 1 ID : **264330529643**
Option 2 ID : **264330529646**
Option 3 ID : **264330529644**
Option 4 ID : **264330529645**
Status : **Answered**
Chosen Option : **3**

Q.16 Select the most appropriate option to fill in the blank.

Enzymes can _____ starches into sugars and proteins into amino acids.

- Ans**
- 1. cover
 - 2. covert
 - 3. convert
 - 4. conserve

Question Type : **MCQ**
Question ID : **264330134370**
Option 1 ID : **264330526464**
Option 2 ID : **264330526465**
Option 3 ID : **264330526466**
Option 4 ID : **264330526463**
Status : **Answered**
Chosen Option : **3**

Q.17 Select the most appropriate option to substitute the bracketed segment in the given sentence. If there is no need to substitute it, select 'no substitution required'.

The only course of action to (fend of the loud clamour off conspiracy theories) is to keep everyone fully informed.

- Ans**
- 1. fend off the loud clamour of conspiracy theories
 - 2. No substitution required
 - 3. fend off the loud clamour off conspiracy theories
 - 4. fend of the loud clamour of conspiracy theories

Question Type : **MCQ**
Question ID : **264330135797**
Option 1 ID : **264330532065**
Option 2 ID : **264330532066**
Option 3 ID : **264330532063**
Option 4 ID : **264330532064**
Status : **Answered**
Chosen Option : **4**

Q.18 A sentence has been given with a blank to be filled with an appropriate option. Choose the correct alternative.

I _____ only a few steps before I was forced to stop.

- Ans
- 1. walk
 - 2. walked
 - 3. had walked
 - 4. have walked

Question Type : **MCQ**

Question ID : **264330134353**

Option 1 ID : **264330526402**

Option 2 ID : **264330526401**

Option 3 ID : **264330526400**

Option 4 ID : **264330526399**

Status : **Answered**

Chosen Option : **3**

Q.19 Choose the incorrectly spelt word.

- Ans
- 1. Pleasurre
 - 2. Heaven
 - 3. Slogan
 - 4. Brinjal

Question Type : **MCQ**

Question ID : **264330134368**

Option 1 ID : **264330526457**

Option 2 ID : **264330526455**

Option 3 ID : **264330526456**

Option 4 ID : **264330526458**

Status : **Answered**

Chosen Option : **1**

Q.20 Choose the word that means the same as the given word.
Villainous

- Ans
- 1. Famous
 - 2. Nefarious
 - 3. Wholesome
 - 4. Lucid

Question Type : **MCQ**

Question ID : **264330134389**

Option 1 ID : **264330526536**

Option 2 ID : **264330526535**

Option 3 ID : **264330526538**

Option 4 ID : **264330526537**

Status : **Answered**

Chosen Option : **1**

Comprehension:

In the following passage some words have been deleted. Fill in the blanks with the help of the alternatives given. Select the most appropriate option for each number.

"Why?" said Harry in surprise. "There is a (1) _____, Harry Potter. A plot to make most terrible things (2) _____ at Hogwarts School of Witchcraft and Wizardry (3) _____," whispered Dobby, suddenly trembling all over. "Dobby has (4) _____ months, sir. Harry Potter (5) _____ in peril.

SubQuestion No : 21

Q.21 Select the most appropriate option to fill in blank number 1.

- Ans**
- 1. plot
 - 2. diary
 - 3. paper
 - 4. notebook

Question Type : **MCQ**

Question ID : **264330136596**

Option 1 ID : **264330535112**

Option 2 ID : **264330535114**

Option 3 ID : **264330535111**

Option 4 ID : **264330535113**

Status : **Answered**

Chosen Option : **1**

Comprehension:

In the following passage some words have been deleted. Fill in the blanks with the help of the alternatives given. Select the most appropriate option for each number.

"Why?" said Harry in surprise. "There is a (1) _____, Harry Potter. A plot to make most terrible things (2) _____ at Hogwarts School of Witchcraft and Wizardry (3) _____," whispered Dobby, suddenly trembling all over. "Dobby has (4) _____ months, sir. Harry Potter (5) _____ in peril.

SubQuestion No : 22

Q.22 Select the most appropriate option to fill in blank number 2.

- Ans**
- 1. happening
 - 2. happened
 - 3. happen
 - 4. happens

Question Type : **MCQ**

Question ID : **264330136597**

Option 1 ID : **264330535118**

Option 2 ID : **264330535116**

Option 3 ID : **264330535117**

Option 4 ID : **264330535115**

Status : **Answered**

Chosen Option : **4**

Comprehension:

In the following passage some words have been deleted. Fill in the blanks with the help of the alternatives given. Select the most appropriate option for each number.

"Why?" said Harry in surprise. "There is a (1) _____, Harry Potter. A plot to make most terrible things (2) _____ at Hogwarts School of Witchcraft and Wizardry (3) _____," whispered Dobby, suddenly trembling all over. "Dobby has (4) _____ months, sir. Harry Potter (5) _____ in peril.

SubQuestion No : 23

Q.23 Select the most appropriate option to fill in blank number 3.

- Ans**
- 1. the year
 - 2. those years
 - 3. that year
 - 4. this year

Question Type : **MCQ**
Question ID : **264330136598**
Option 1 ID : **264330535119**
Option 2 ID : **264330535121**
Option 3 ID : **264330535120**
Option 4 ID : **264330535122**
Status : **Answered**
Chosen Option : **4**

Comprehension:

In the following passage some words have been deleted. Fill in the blanks with the help of the alternatives given. Select the most appropriate option for each number.

"Why?" said Harry in surprise. "There is a (1) _____, Harry Potter. A plot to make most terrible things (2) _____ at Hogwarts School of Witchcraft and Wizardry (3) _____," whispered Dobby, suddenly trembling all over. "Dobby has (4) _____ months, sir. Harry Potter (5) _____ in peril.

SubQuestion No : 24

Q.24 Select the most appropriate option to fill in blank number 4.

- Ans**
- 1. had knowing for
 - 2. known it for
 - 3. had acknowledging for
 - 4. been known since

Question Type : **MCQ**
Question ID : **264330136599**
Option 1 ID : **264330535125**
Option 2 ID : **264330535123**
Option 3 ID : **264330535126**
Option 4 ID : **264330535124**
Status : **Answered**
Chosen Option : **4**

Comprehension:

In the following passage some words have been deleted. Fill in the blanks with the help of the alternatives given. Select the most appropriate option for each number.

"Why?" said Harry in surprise. "There is a (1) _____, Harry Potter. A plot to make most terrible things (2) _____ at Hogwarts School of Witchcraft and Wizardry (3) _____," whispered Dobby, suddenly trembling all over. "Dobby has (4) _____ months, sir. Harry Potter (5) _____ in peril.

SubQuestion No : 25

Q.25 Select the most appropriate option to fill in blank number 5.

- Ans**
- 1. must not insert himself
 - 2. must not put his self
 - 3. must not put himself
 - 4. might not put oneself

Question Type : **MCQ**

Question ID : **264330136600**

Option 1 ID : **264330535130**

Option 2 ID : **264330535129**

Option 3 ID : **264330535128**

Option 4 ID : **264330535127**

Status : **Answered**

Chosen Option : **3**

Multi Tasking Non Technical Staff and Havaladar CBIC and CBN Examination 2022

Roll Number	KD Job Updates
Candidate Name	KD Job Updates
Venue Name	Vibrant Assessment Centre
Exam Date	17/05/2023
Exam Time	3:30 PM - 5:00 PM
Subject	MTS Non Tech Havaladar CBIC and CBN Examination 2022

Section : Numerical and Mathematical Ability

Q.1 यदि एक संख्या का 20% दूसरी संख्या का (1/6) भाग है, तो पहली संख्या का दूसरी संख्या से अनुपात कितना है?

- Ans
- 1. 4:5
 - 2. 5:6
 - 3. 4:7
 - 4. 5:3

Question Type : MCQ

Question ID : 264330135118

Option 1 ID : 264330529407

Option 2 ID : 264330529409

Option 3 ID : 264330529410

Option 4 ID : 264330529408

Status : Answered

Chosen Option : 2

Q.2 $\frac{13 \times 4 - 26}{54 - 7 \times 4}$ का मान क्या है?

- Ans
- 1. 1
 - 2. 0
 - 3. -1
 - 4. 10

Question Type : MCQ

Question ID : 264330137619

Option 1 ID : 264330539084

Option 2 ID : 264330539085

Option 3 ID : 264330539083

Option 4 ID : 264330539086

Status : Answered

Chosen Option : 1

Q.3 एक वृत्ताकार पथ की बाहरी और आंतरिक परिधियों का अनुपात 11 : 7 है। यदि पथ की चौड़ाई 20 मीटर है, तो आंतरिक वृत्त की विज्या कितनी है?

- Ans
- 1. 55 मीटर
 - 2. 20 मीटर
 - 3. 65 मीटर
 - 4. 35 मीटर

Question Type : MCQ

Question ID : 264330137168

Option 1 ID : 264330537317

Option 2 ID : 264330537315

Option 3 ID : 264330537316

Option 4 ID : 264330537318

Status : Answered

Chosen Option : 4

Q.4 रीनल ने Rs. 28500 में एक एसी (AC) खरीदा और उसकी दुलाई के लिए Rs. 600 का भुगतान किया। फिर उसने इसे Rs. 30264 में बेच दिया। उसका लाभ % क्या है?

- Ans
- 1. 8%
 - 2. 5%
 - 3. 10%
 - 4. 4%

Question Type : MCQ

Question ID : 264330135116

Option 1 ID : 264330529401

Option 2 ID : 264330529400

Option 3 ID : 264330529399

Option 4 ID : 264330529402

Status : Answered

Chosen Option : 4

Q.5 A अकेले किसी कार्य का $\frac{1}{10}$ भाग 8 घंटों में कर सकता है। B अकेले उसी कार्य का $\frac{1}{5}$ भाग 4 घंटों में कर सकता है। यदि वे मिलकर कार्य करें, तो उसी कार्य के $\frac{9}{16}$ भाग को पूरा करने में उन्हें कितने घंटे लगेंगे?

- Ans
- 1. 8 घंटे
 - 2. 9 घंटे
 - 3. 4 घंटे
 - 4. 5 घंटे

Question Type : MCQ

Question ID : 264330137153

Option 1 ID : 264330537258

Option 2 ID : 264330537255

Option 3 ID : 264330537257

Option 4 ID : 264330537256

Status : Answered

Chosen Option : 2

- Q.6 निम्नलिखित दंड आलेख में दो क्रमागत वर्षों 2018 और 2019 के दौरान एक कंपनी के पाँच स्टोर से की गई सेलफोन की बिक्री (हजार संख्या में) को दर्शाया गया है।
दोनों वर्षों में स्टोर S₃ की कुल बिक्री और दोनों वर्षों में स्टोर S₁ की कुल बिक्री का अनुपात कितना है?



Sales (in thousand numbers) = बिक्री (हजार संख्या में)
Year 2018 = वर्ष 2018, Year 2019 = वर्ष 2019
Store = स्टोर

- Ans
- 1. 4:5
 - 2. 3:7
 - 3. 8:5
 - 4. 7:4

Question Type : MCQ

Question ID : 264330135126

Option 1 ID : 264330529440

Option 2 ID : 264330529442

Option 3 ID : 264330529439

Option 4 ID : 264330529441

Status : Answered

Chosen Option : 3

- Q.7 एक बेलन की त्रिज्या 14 cm है। यदि बेलन की ऊँचाई उसकी त्रिज्या की चार गुनी है, तो बेलन का वक्र पृष्ठीय क्षेत्रफल क्या है?

- Ans
- 1. 5546 cm²
 - 2. 4928 cm²
 - 3. 4694 cm²
 - 4. 5214 cm²

Question Type : MCQ

Question ID : 264330139089

Option 1 ID : 264330544963

Option 2 ID : 264330544964

Option 3 ID : 264330544966

Option 4 ID : 264330544965

Status : Answered

Chosen Option : 2

Q.8 यदि 2 वर्षों के लिए चक्रवृद्धि ब्याज Rs.618 है, तो एक व्यक्ति द्वारा निवेश की गई वह धनराशि ज्ञात कीजिए जो उसने 6% वार्षिक दर पर चक्रवृद्धि ब्याज (वार्षिक रूप से संयोजित) प्रदान करने वाली योजना में निवेश की है।

- Ans
- 1. Rs.9000
 - 2. Rs.5000
 - 3. Rs.4000
 - 4. Rs.7000

Question Type : MCQ

Question ID : 264330135425

Option 1 ID : 264330530607

Option 2 ID : 264330530610

Option 3 ID : 264330530609

Option 4 ID : 264330530608

Status : Answered

Chosen Option : 2

Q.9 Rs. 6000 की राशि 8 प्रतिशत वार्षिक दर से चक्रवृद्धि ब्याज (तिमाही रूप से संयोजित) पर ऋण पर दी जाती है। 6 माह का चक्रवृद्धि ब्याज कितना होगा?

- Ans
- 1. Rs. 164.6
 - 2. Rs. 268.6
 - 3. Rs. 242.4
 - 4. Rs. 190.5

Question Type : MCQ

Question ID : 264330139067

Option 1 ID : 264330544876

Option 2 ID : 264330544877

Option 3 ID : 264330544875

Option 4 ID : 264330544878

Status : Answered

Chosen Option : 2

Q.10 10 संख्याओं का औसत 8 है। यदि प्रत्येक संख्या को 10 से गुणा किया जाए, तो नया औसत _____ होगा।

- Ans
- 1. 80
 - 2. 50
 - 3. 8
 - 4. 18

Question Type : MCQ

Question ID : 264330135111

Option 1 ID : 264330529381

Option 2 ID : 264330529382

Option 3 ID : 264330529379

Option 4 ID : 264330529380

Status : Answered

Chosen Option : 4

Q.11 एक कक्षा में, यदि 55% छात्र, लड़के हैं और लड़कियों की संख्या 90 है, तो लड़कों की संख्या ज्ञात कीजिए।

- Ans
- 1. 198
 - 2. 120
 - 3. 135
 - 4. 110

Question Type : MCQ

Question ID : 264330135418

Option 1 ID : 264330530582

Option 2 ID : 264330530579

Option 3 ID : 264330530581

Option 4 ID : 264330530580

Status : Answered

Chosen Option : 4

Q.12 A अकेले किसी कार्य को 25 दिनों में पूरा कर सकता है और B अकेले उसी कार्य को 50 दिनों में पूरा कर सकता है। यदि वे दोनों साथ मिलकर कार्य करते हैं, तो कुल कार्य का कितना प्रतिशत कार्य 9 दिनों में पूरा होगा?

- Ans
- 1. 49 प्रतिशत
 - 2. 60 प्रतिशत
 - 3. 54 प्रतिशत
 - 4. 45 प्रतिशत

Question Type : MCQ

Question ID : 264330139076

Option 1 ID : 264330544914

Option 2 ID : 264330544911

Option 3 ID : 264330544912

Option 4 ID : 264330544913

Status : Answered

Chosen Option : 3

Q.13 एक लड़की अपने बगीचे में पेड़ों को पंक्तियों में इस प्रकार लगाना चाहती है कि प्रत्येक पंक्ति में पेड़ों की संख्या समान हो। बगीचे में 10 पंक्तियाँ हैं और प्रत्येक पंक्ति में पेड़ों की संख्या 12 है, यदि बगीचे में 5 और पंक्तियाँ बना दी जाती हैं, तो प्रत्येक पंक्ति में पेड़ों की संख्या कितनी होगी?

- Ans
- 1. 12
 - 2. 10
 - 3. 8
 - 4. 6

Question Type : MCQ

Question ID : 264330135119

Option 1 ID : 264330529412

Option 2 ID : 264330529411

Option 3 ID : 264330529413

Option 4 ID : 264330529414

Status : Answered

Chosen Option : 1

Q.14 निम्न तालिका में वर्ष 2012 से 2018 तक 5 विभिन्न कंपनियों में कर्मचारियों की संख्या को दर्शाया गया है। वर्ष 2015 में, कंपनी C में कर्मचारियों की संख्या, कंपनी E से कितने प्रतिशत कम है?

Year/ Company	A	B	C	D	E
2012	242	215	223	211	177
2013	245	163	165	213	211
2014	231	191	221	241	215
2015	198	188	222	223	250
2016	197	240	175	221	254
2017	177	245	268	198	268
2018	158	230	213	215	218

Year - वर्ष, Company - कंपनी

- Ans 1. 11.2%
 2. 16%
 3. 28%
 4. 18.8%

Question Type : MCQ

Question ID : 264330138451

Option 1 ID : 264330542412

Option 2 ID : 264330542414

Option 3 ID : 264330542411

Option 4 ID : 264330542413

Status : Answered

Chosen Option : 1

Q.15 एक वस्तु 20 m की दूरी 5 सेकंड में तथा एक और 25 m की दूरी 10 सेकंड में तय करती है। वस्तु की औसत चाल क्या है?

- Ans 1. 3 m/sec
 2. 4 m/sec
 3. 5 m/sec
 4. 2 m/sec

Question Type : MCQ

Question ID : 264330141012

Option 1 ID : 264330552397

Option 2 ID : 264330552395

Option 3 ID : 264330552398

Option 4 ID : 264330552396

Status : Answered

Chosen Option : 1

Q.16 एक थोक विक्रेता अपने माल को क्रय मूल्य से 35% अधिक पर अंकित करता है परंतु विक्री के समय 15% का बट्टा देता है। उसका लाभ है:

- Ans
- 1. 24.85%
 - 2. 20.45%
 - 3. 25.50%
 - 4. 14.75%

Question Type : MCQ
Question ID : 264330135117
Option 1 ID : 264330529403
Option 2 ID : 264330529406
Option 3 ID : 264330529405
Option 4 ID : 264330529404
Status : Answered
Chosen Option : 4

Q.17 यदि $48 \div 4 + A \times 2 - 8 = 14$, तो A का मान ज्ञात कीजिए।

- Ans
- 1. 14
 - 2. 10
 - 3. 5
 - 4. 8

Question Type : MCQ
Question ID : 264330138435
Option 1 ID : 264330542349
Option 2 ID : 264330542348
Option 3 ID : 264330542347
Option 4 ID : 264330542350
Status : Answered
Chosen Option : 3

Q.18 $8 + \{12 - (8 \div 2)\} \times (1/4)$ का मान है:

- Ans
- 1. 10
 - 2. 6
 - 3. 2
 - 4. 8

Question Type : MCQ
Question ID : 264330135108
Option 1 ID : 264330529367
Option 2 ID : 264330529370
Option 3 ID : 264330529369
Option 4 ID : 264330529368
Status : Answered
Chosen Option : 1

Q.19 सौम्य 50 km की दूरी तय करने में सन्नी से 1 घंटा अधिक लेता है। यदि सौम्य अपनी चाल दोगुनी कर देता, तो वह सन्नी से 1 घंटा कम समय लेता। सौम्य की चाल है:

- Ans
- 1. 15.6 km/hr
 - 2. 18.4 km/hr
 - 3. 12.5 km/hr
 - 4. 14.8 km/hr

Question Type : MCQ
Question ID : 264330135122
Option 1 ID : 264330529424
Option 2 ID : 264330529423
Option 3 ID : 264330529426
Option 4 ID : 264330529425
Status : Answered
Chosen Option : 3

Q.20 एक वस्तु के क्रय मूल्य का 40 प्रतिशत उसके विक्रय मूल्य के 24 प्रतिशत के बराबर है। लाभ प्रतिशत क्या है?

- Ans
- 1. 50 प्रतिशत
 - 2. 66.66 प्रतिशत
 - 3. 60 प्रतिशत
 - 4. 52.5 प्रतिशत

Question Type : MCQ
Question ID : 264330137630
Option 1 ID : 264330539129
Option 2 ID : 264330539128
Option 3 ID : 264330539127
Option 4 ID : 264330539130
Status : Answered
Chosen Option : 2

Section : Reasoning Ability and Problem Solving

Q.1 एक निश्चित कूट भाषा में, 'JAPAN' को 'KZPZO' लिखा जाता है। उस कूट भाषा में 'GROUP' को कैसे लिखा जाएगा?

- Ans
- 1. HOTOQ
 - 2. HOQTQ
 - 3. HQOTQ
 - 4. HQQTO

Question Type : MCQ
Question ID : 264330134982
Option 1 ID : 264330528866
Option 2 ID : 264330528865
Option 3 ID : 264330528864
Option 4 ID : 264330528863
Status : Answered
Chosen Option : 3

Q.2 तीन कथन दिए गए हैं और दो निष्कर्ष I और II दिए गए हैं। कथनों को सत्य मानते हुए, चाहे वे सामान्यतः ज्ञात तथ्यों से अलग प्रतीत होते हों, निश्चय कीजिए कि कौन-सा निष्कर्ष तार्किक रूप से कथनों के अनुसार है।

कथन:

सभी महासागर, तेल हैं।

सभी तेल, दूध हैं।

सभी दूध, पानी हैं।

निष्कर्ष:

I. कुछ पानी, दूध हैं।

II. सभी दूध, महासागर हैं।

Ans

- 1. केवल निष्कर्ष II कथनों के अनुसार है।
- 2. दोनों निष्कर्ष I और II कथनों के अनुसार हैं।
- 3. केवल निष्कर्ष I कथनों के अनुसार है।
- 4. न तो निष्कर्ष I और न ही II कथनों के अनुसार है।

Question Type : MCQ

Question ID : 264330135010

Option 1 ID : 264330528976

Option 2 ID : 264330528977

Option 3 ID : 264330528975

Option 4 ID : 264330528978

Status : Answered

Chosen Option : 3

Q.3 उस विकल्प आकृति को चुनिए जिसमें दी गई आकृति निहित है। (घूर्णन की अनुमति नहीं है)



Ans

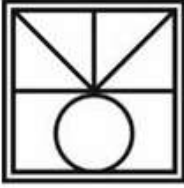
✓ 1.



✗ 2.



✗ 3.



✗ 4.



Question Type : MCQ

Question ID : 264330138558

Option 1 ID : 264330542841

Option 2 ID : 264330542840

Option 3 ID : 264330542842

Option 4 ID : 264330542839

Status : Answered

Chosen Option : 1

Q.4 R, M से लंबा है। M, P से लंबा है। S, R से लंबा है। H, P से कद में छोटा है। U, N से लंबा है और H से कद में छोटा है। इनमें से सबसे लंबा कौन है?

Ans ✗ 1. U

✓ 2. S

✗ 3. M

✗ 4. R

Question Type : MCQ

Question ID : 264330135008

Option 1 ID : 264330528967

Option 2 ID : 264330528970

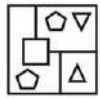
Option 3 ID : 264330528968

Option 4 ID : 264330528969

Status : Answered

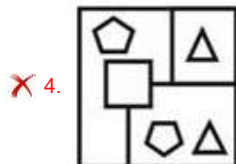
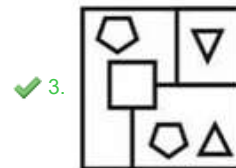
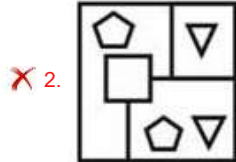
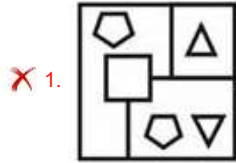
Chosen Option : 2

Q.5 यदि एक दर्पण को रेखा AB पर रखा जाए, तो दी गई विकल्प आकृतियों में से कौन-सी आकृति प्रश्न आकृति का सही प्रतिबिम्ब होगी?



A B

Ans



Question Type : MCQ

Question ID : 264330138559

Option 1 ID : 264330542844

Option 2 ID : 264330542845

Option 3 ID : 264330542846

Option 4 ID : 264330542843

Status : Answered

Chosen Option : 3

Q.6 दी गई श्रृंखला में निम्नलिखित में से कौन-सी संख्या प्रश्न चिन्ह (?) के स्थान पर आएगी?
53, 60, 67, 74, 81, 88, ?

Ans ✓ 1. 95

✗ 2. 98

✗ 3. 104

✗ 4. 93

Question Type : MCQ

Question ID : 264330135012

Option 1 ID : 264330528983

Option 2 ID : 264330528985

Option 3 ID : 264330528986

Option 4 ID : 264330528984

Status : Answered

Chosen Option : 1

Q.7 एक निश्चित कूट भाषा में, 'EAR' को '24' लिखा जाता है। उस भाषा में 'ICY' को कैसे लिखा जाएगा?

- Ans
- 1. 34
 - 2. 37
 - 3. 38
 - 4. 42

Question Type : MCQ

Question ID : 264330137856

Option 1 ID : 264330540033

Option 2 ID : 264330540032

Option 3 ID : 264330540034

Option 4 ID : 264330540031

Status : Answered

Chosen Option : 2

Q.8 उस विकल्प को चुनिए जो तीसरे अक्षर-समूह से ठीक उसी प्रकार संबंधित है जिस प्रकार दूसरा अक्षर-समूह पहले अक्षर-समूह से संबंधित है।
AFN : BDQ :: DLR : ?

- Ans
- 1. EJU
 - 2. JUN
 - 3. EUJ
 - 4. UJE

Question Type : MCQ

Question ID : 264330135000

Option 1 ID : 264330528935

Option 2 ID : 264330528938

Option 3 ID : 264330528936

Option 4 ID : 264330528937

Status : Answered

Chosen Option : 1

Q.9 दी गई श्रृंखला में निम्नलिखित में से कौनसा अक्षर प्रश्न चिन्ह (?) के स्थान पर आएगा?
L, N, R, X, F, P, ?

- Ans
- 1. M
 - 2. S
 - 3. B
 - 4. F

Question Type : MCQ

Question ID : 264330134998

Option 1 ID : 264330528927

Option 2 ID : 264330528929

Option 3 ID : 264330528928

Option 4 ID : 264330528930

Status : Answered

Chosen Option : 3

Q.10 P, Q, R, S और T एक वृत्ताकार मेज पर केंद्र की ओर मुख करके बैठे हैं। R, T के ठीक बाईं ओर बैठा है। Q, S के ठीक बाईं ओर, और T के ठीक दाईं ओर बैठा है। S के ठीक दाईं ओर कौन बैठा है?

- Ans 1. P
 2. T
 3. R
 4. Q

Question Type : MCQ

Question ID : 264330135007

Option 1 ID : 264330528963

Option 2 ID : 264330528966

Option 3 ID : 264330528965

Option 4 ID : 264330528964

Status : Answered

Chosen Option : 1

Q.11 दिए गए पैटर्न का ध्यानपूर्वक अध्ययन कीजिए और उस संख्या को चुनिए जो इसमें प्रश्न चिन्ह (?) के स्थान पर आ सकती है।
पहली पंक्ति- 68, 56, 44
दूसरी पंक्ति- 245, 233, 221
तीसरी पंक्ति- 97, 85, ?

- Ans 1. 89
 2. 93
 3. 73
 4. 90

Question Type : MCQ

Question ID : 264330135014

Option 1 ID : 264330528992

Option 2 ID : 264330528993

Option 3 ID : 264330528991

Option 4 ID : 264330528994

Status : Answered

Chosen Option : 3

Q.12 एक निश्चित कूट भाषा में, 'FIELD' को 'LOKRJ' लिखा जाता है और 'GLOBE' को 'MRUHK' लिखा जाता है। उस भाषा में 'GLASS' को कैसे लिखा जाएगा?

- Ans 1. MRHYY
 2. MRGZZ
 3. MRGYY
 4. MSGYY

Question Type : MCQ

Question ID : 264330133510

Option 1 ID : 264330523073

Option 2 ID : 264330523074

Option 3 ID : 264330523071

Option 4 ID : 264330523072

Status : Answered

Chosen Option : 3

Q.13 अयान, प्रशांत, रितु, नीता, स्नेहा और जैन एक पंक्ति में दक्षिण की ओर मुख करके बैठे हैं। स्नेहा और जैन मध्य में बैठे हैं। अयान और प्रशांत कौनों पर बैठे हैं। रितु अयान के ठीक बाएँ पर बैठी है। प्रशांत के ठीक दाएँ पर कौन बैठा है?

- Ans
- ✓ 1. नीता
 - ✗ 2. स्नेहा
 - ✗ 3. अयान
 - ✗ 4. रितु

Question Type : MCQ

Question ID : 264330135006

Option 1 ID : 264330528959

Option 2 ID : 264330528961

Option 3 ID : 264330528962

Option 4 ID : 264330528960

Status : Answered

Chosen Option : 1

Q.14 दो कथन दिए गए हैं और दो निष्कर्ष I और II दिए गए हैं। कथनों को सत्य मानते हुए, चाहे वे सामान्यतः ज्ञात तथ्यों से अलग प्रतीत होते हों, निश्चय कीजिए कि कौन-सा निष्कर्ष तार्किक रूप से कथनों के अनुसार है।

कथन:

सभी घंटियाँ, पक्षी हैं।

कुछ घंटियाँ, खिलौने हैं।

निष्कर्ष:

I. कोई पक्षी, खिलौना नहीं है।

II. कुछ खिलौने, पक्षी हैं।

- Ans
- ✗ 1. केवल निष्कर्ष I कथनों के अनुसार है।
 - ✗ 2. न तो निष्कर्ष I और न ही II कथनों के अनुसार है।
 - ✓ 3. केवल निष्कर्ष II कथनों के अनुसार है।
 - ✗ 4. दोनों निष्कर्ष I और II कथनों के अनुसार हैं।

Question Type : MCQ

Question ID : 264330135009

Option 1 ID : 264330528971

Option 2 ID : 264330528974

Option 3 ID : 264330528972

Option 4 ID : 264330528973

Status : Answered

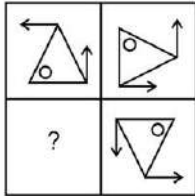
Chosen Option : 3

Q.15 दिए गए समीकरण को सही करने के लिए किन दो संख्याओं को आपस में बदला जाना चाहिए?
 $5 \times 7 - 4 + 21 \div 6 = 29$

- Ans
- ✗ 1. 5 और 4
 - ✗ 2. 21 और 29
 - ✗ 3. 6 और 5
 - ✓ 4. 6 और 7

Question Type : MCQ
Question ID : 264330135015
Option 1 ID : 264330528995
Option 2 ID : 264330528997
Option 3 ID : 264330528996
Option 4 ID : 264330528998
Status : Answered
Chosen Option : 4

Q.16 उस विकल्प आकृति को चुनिए जो पैटर्न को पूरा करने के लिए नीचे दी गई आकृति में प्रश्न चिन्ह (?) के स्थान पर आएगी। (पूर्णांक की अनुमति नहीं है)



Ans

- ✗ 1.
- ✗ 2.
- ✓ 3.
- ✗ 4.

Question Type : MCQ
Question ID : 264330135019
Option 1 ID : 264330529014
Option 2 ID : 264330529013
Option 3 ID : 264330529012
Option 4 ID : 264330529011
Status : Answered
Chosen Option : 3

Q.17 निम्नलिखित प्रश्न में दी गई श्रृंखला में लुप्त संख्या को चुनिए।

43, 42, 39, 34, 27, ?

- Ans
- 1. 21
 - 2. 16
 - 3. 20
 - 4. 18

Question Type : MCQ
Question ID : 264330135628
Option 1 ID : 264330531413
Option 2 ID : 264330531414
Option 3 ID : 264330531411
Option 4 ID : 264330531412
Status : Answered
Chosen Option : 4

Q.18 उस विकल्प को चुनिए जो तीसरे शब्द से ठीक उसी प्रकार संबंधित है जिस प्रकार दूसरा शब्द पहले शब्द से संबंधित है।
घर : कमरा :: दुनिया : ?

- Ans
- 1. चेहरा
 - 2. पेंसिल
 - 3. महाद्वीप
 - 4. बिस्तर

Question Type : MCQ
Question ID : 264330135001
Option 1 ID : 264330528941
Option 2 ID : 264330528940
Option 3 ID : 264330528939
Option 4 ID : 264330528942
Status : Answered
Chosen Option : 3

Q.19 उस विकल्प को चुनिए जो पाँचवीं संख्या से ठीक उसी प्रकार संबंधित है जिस प्रकार दूसरी संख्या पहली संख्या से संबंधित है और चौथी संख्या तीसरी संख्या से संबंधित है।

5 : 50 :: 17 : 170 :: 19 : ?

- Ans
- 1. 200
 - 2. 210
 - 3. 190
 - 4. 180

Question Type : MCQ
Question ID : 264330135630
Option 1 ID : 264330531420
Option 2 ID : 264330531422
Option 3 ID : 264330531421
Option 4 ID : 264330531419
Status : Answered
Chosen Option : 3

Q.20 दी गई दो संख्याओं को आपस में बदलने पर निम्नलिखित में से कौन-सा समीकरण सही नहीं होगा?

8 और 2

I. $8 \times 4 - 6 \div 3 + 2 = 14$

II. $6 - 8 \times 3 + 2 \div 1 = 9$

Ans 1. केवल I

2. केवल II

3. I और II दोनों

4. न तो I और न ही II

Question Type : MCQ

Question ID : 264330138846

Option 1 ID : 264330543991

Option 2 ID : 264330543992

Option 3 ID : 264330543993

Option 4 ID : 264330543994

Status : Answered

Chosen Option : 2

Section : General Awareness

Q.1 निम्नलिखित में से कौन-सा वनस्पति जगत में आवृतबीजियों (Angiosperm) का एक उदाहरण है?

Ans 1. फ्यूनेरिया (Funaria)

2. पाइनस (Pinus)

3. कारा (Chara)

4. टमाटर (Tomato)

Question Type : MCQ

Question ID : 264330135491

Option 1 ID : 264330530873

Option 2 ID : 264330530871

Option 3 ID : 264330530872

Option 4 ID : 264330530874

Status : Answered

Chosen Option : 4

Q.2 फरवरी 2022 में, कैबिनेट ने 'आयुष्मान भारत डिजिटल मिशन (Ayushman Bharat Digital Mission)' लागू करने की मंजूरी दी थी। केंद्र सरकार के किस मंत्रालय ने देशभर में आयुष्मान भारत योजना की शुरुआत की?

- Ans
- ✗ 1. महिला एवं बाल विकास मंत्रालय
 - ✗ 2. शिक्षा मंत्रालय
 - ✗ 3. आयुष मंत्रालय
 - ✓ 4. स्वास्थ्य एवं परिवार कल्याण मंत्रालय

Question Type : MCQ
Question ID : 264330134669
Option 1 ID : 264330527631
Option 2 ID : 264330527632
Option 3 ID : 264330527634
Option 4 ID : 264330527633
Status : Answered
Chosen Option : 2

Q.3 ब्रह्म सभा के संस्थापक _____ थे।

- Ans
- ✓ 1. राजा राम मोहन राय
 - ✗ 2. केशव चंद्र सेन
 - ✗ 3. रवीन्द्रनाथ टैगोर
 - ✗ 4. राधाकांत देव

Question Type : MCQ
Question ID : 264330138919
Option 1 ID : 264330544283
Option 2 ID : 264330544286
Option 3 ID : 264330544284
Option 4 ID : 264330544285
Status : Answered
Chosen Option : 3

Q.4 भारतीय संविधान के किस अनुच्छेद में शोषण के विरुद्ध अधिकार निहित है?

- Ans
- ✓ 1. अनुच्छेद 23 और 24
 - ✗ 2. अनुच्छेद 21
 - ✗ 3. अनुच्छेद 27 और 28
 - ✗ 4. अनुच्छेद 15

Question Type : MCQ
Question ID : 264330134689
Option 1 ID : 264330527714
Option 2 ID : 264330527713
Option 3 ID : 264330527712
Option 4 ID : 264330527711
Status : Answered
Chosen Option : 1

Q.5 कोशिकाविज्ञान _____ का अध्ययन है।

- Ans
- 1. ऊतकों
 - 2. वंशाणुओं
 - 3. कोशिकाओं
 - 4. हरितलवकों

Question Type : MCQ
Question ID : 264330134675
Option 1 ID : 264330527655
Option 2 ID : 264330527658
Option 3 ID : 264330527656
Option 4 ID : 264330527657
Status : Answered
Chosen Option : 3

Q.6 2011 की जनगणना के अनुसार, भारत में कुल जनसंख्या की दृष्टि से महाराष्ट्र किस स्थान पर है?

- Ans
- 1. पहले
 - 2. दूसरे
 - 3. तीसरे
 - 4. चौथे

Question Type : MCQ
Question ID : 264330135495
Option 1 ID : 264330530887
Option 2 ID : 264330530888
Option 3 ID : 264330530889
Option 4 ID : 264330530890
Status : Answered
Chosen Option : 3

Q.7 भारत के रक्षा बलों का सर्वोच्च सेनापति कौन होता है?

- Ans
- 1. भारत का राष्ट्रपति
 - 2. भारत का मुख्य न्यायाधीश
 - 3. भारत का प्रधानमंत्री
 - 4. सेनाध्यक्ष

Question Type : MCQ
Question ID : 264330138907
Option 1 ID : 264330544236
Option 2 ID : 264330544235
Option 3 ID : 264330544237
Option 4 ID : 264330544238
Status : Answered
Chosen Option : 1

Q.8 निम्नलिखित में से किसे वर्ष 1986 में 'पद्म विभूषण (Padma Vibhushan)' से सम्मानित किया गया था और उन्होंने देवदास (Devdas) फिल्म के प्रसिद्ध गीत 'काहे छेड़ मोहे (Kahe Chhed Mohe)' और बाजीराव मस्तानी (Bajirao Mastani) के 'मोहे रंग दो लाल (Mohe Rang Do Laal)' को कोरियोग्राफ किया था?

- Ans
- 1. बिपिन सिंह
 - 2. केलुचरण महापात्र
 - 3. बिरजू महाराज
 - 4. उदय शंकर

Question Type : MCQ
Question ID : 264330134663
Option 1 ID : 264330527610
Option 2 ID : 264330527609
Option 3 ID : 264330527607
Option 4 ID : 264330527608
Status : Answered
Chosen Option : 4

Q.9 अमरावती कला शैली _____ के संरक्षण में विकसित हुई है।

- Ans
- 1. पाल
 - 2. चोल
 - 3. चेर
 - 4. सातवाहन

Question Type : MCQ
Question ID : 264330138898
Option 1 ID : 264330544202
Option 2 ID : 264330544199
Option 3 ID : 264330544201
Option 4 ID : 264330544200
Status : Answered
Chosen Option : 3

Q.10 हिमालय पर्वत श्रृंखला _____ का एक प्रकार है।

- Ans
- 1. अवशिष्ट पर्वत (residual mountains)
 - 2. संचित पर्वत (accumulated mountains)
 - 3. वलित पर्वत (fold mountains)
 - 4. अंशोत्थ पर्वत (block mountains)

Question Type : MCQ
Question ID : 264330134679
Option 1 ID : 264330527672
Option 2 ID : 264330527674
Option 3 ID : 264330527671
Option 4 ID : 264330527673
Status : Answered
Chosen Option : 4

Q.11 भारत ने किस वर्ष अपना 76वाँ स्वतंत्रता दिवस मनाया?

- Ans 1. 2022
 2. 2019
 3. 2021
 4. 2018

Question Type : MCQ
Question ID : 264330138322
Option 1 ID : 264330541895
Option 2 ID : 264330541897
Option 3 ID : 264330541896
Option 4 ID : 264330541898
Status : Answered
Chosen Option : 1

Q.12 पृथ्वी पर ज्वालामुखी विस्फोट होने पर, उद्गर्गण सामग्री समान्यतः तरल चट्टान के रूप में निकलती है जिसे _____ कहते हैं।

- Ans 1. पारा (Mercury)
 2. लावा (Lava)
 3. प्लाज्मा (Plasma)
 4. ओला (Hailstone)

Question Type : MCQ
Question ID : 264330135492
Option 1 ID : 264330530878
Option 2 ID : 264330530877
Option 3 ID : 264330530876
Option 4 ID : 264330530875
Status : Answered
Chosen Option : 2

Q.13 एक ही परमाणु से बने ऋणायन (Negative ions) को तत्व के मूल नाम में _____ प्रत्यय लगाकर नामांकित किया जाता है।

- Ans 1. -अस (-ous)
 2. -इक (-ic)
 3. -आइड (-ide)
 4. -ओनियम (-onium)

Question Type : MCQ
Question ID : 264330135489
Option 1 ID : 264330530864
Option 2 ID : 264330530866
Option 3 ID : 264330530865
Option 4 ID : 264330530863
Status : Not Answered
Chosen Option : --

Q.14 निम्नलिखित में से कौन-सा राजस्थान का एक पारंपरिक लोकनृत्य है?

- Ans
- 1. बिहू
 - 2. घूमर
 - 3. भांगड़ा
 - 4. गिद्दा

Question Type : MCQ
Question ID : 264330134671
Option 1 ID : 264330527642
Option 2 ID : 264330527641
Option 3 ID : 264330527640
Option 4 ID : 264330527639
Status : Answered
Chosen Option : 2

Q.15 पानीपत का तीसरा युद्ध सन् _____ में हुआ था।

- Ans
- 1. 1754
 - 2. 1761
 - 3. 1765
 - 4. 1757

Question Type : MCQ
Question ID : 264330135498
Option 1 ID : 264330530902
Option 2 ID : 264330530899
Option 3 ID : 264330530901
Option 4 ID : 264330530900
Status : Not Answered
Chosen Option : --

Q.16 उस्ताद ज़ाकिर हुसैन _____ के सबसे महान वादकों में से एक हैं।

- Ans
- 1. शहनाई
 - 2. वायलिन
 - 3. सितार
 - 4. तबला

Question Type : MCQ
Question ID : 264330134687
Option 1 ID : 264330527703
Option 2 ID : 264330527704
Option 3 ID : 264330527705
Option 4 ID : 264330527706
Status : Answered
Chosen Option : 4

Q.17 जैन तथा बौद्ध धर्म जिस समय लोकप्रिय हो रहे थे, उसी समय ब्राह्मणों ने चार आश्रमों की व्यवस्था की। निम्नलिखित में से किस आश्रम की व्यवस्था नहीं की गई थी?

- Ans
- 1. गृहस्थ
 - 2. परमार्थ
 - 3. वानप्रस्थ
 - 4. ब्रह्मचर्य

Question Type : MCQ
Question ID : 264330138342
Option 1 ID : 264330541976
Option 2 ID : 264330541977
Option 3 ID : 264330541978
Option 4 ID : 264330541975
Status : Answered
Chosen Option : 4

Q.18 निम्नलिखित में से किस मृदा को रेगर (Regur) मृदा के नाम से भी जाना जाता है?

- Ans
- 1. काली मृदा
 - 2. लैटेराइट मृदा
 - 3. पीटमय (Peaty) मृदा
 - 4. जलोढ़ मृदा

Question Type : MCQ
Question ID : 264330134653
Option 1 ID : 264330527567
Option 2 ID : 264330527569
Option 3 ID : 264330527568
Option 4 ID : 264330527570
Status : Answered
Chosen Option : 4

Q.19 मेजर ध्यानचंद किस खेल के लिए जाने जाते थे?

- Ans
- 1. फुटबॉल
 - 2. फील्ड हॉकी
 - 3. पोलो
 - 4. वॉलीबॉल

Question Type : MCQ
Question ID : 264330134691
Option 1 ID : 264330527719
Option 2 ID : 264330527721
Option 3 ID : 264330527722
Option 4 ID : 264330527720
Status : Answered
Chosen Option : 2

Q.20 केंद्र ने 2019 में संविधान के अनुच्छेद 370 को रद्द कर दिया। इस अनुच्छेद ने _____ को विशेष राज्य का दर्जा दिया था।

- Ans
- ✓ 1. जम्मू और कश्मीर
 - ✗ 2. हिमाचल प्रदेश
 - ✗ 3. पंजाब
 - ✗ 4. उत्तरप्रदेश

Question Type : MCQ
Question ID : 264330134690
Option 1 ID : 264330527715
Option 2 ID : 264330527716
Option 3 ID : 264330527718
Option 4 ID : 264330527717
Status : Answered
Chosen Option : 1

Q.21 2011 की जनगणना के अनुसार, भारत का जनसंख्या घनत्व कितना है?

- Ans
- ✗ 1. 356 व्यक्ति प्रति वर्ग किलोमीटर
 - ✓ 2. 382 व्यक्ति प्रति वर्ग किलोमीटर
 - ✗ 3. 482 व्यक्ति प्रति वर्ग किलोमीटर
 - ✗ 4. 495 व्यक्ति प्रति वर्ग किलोमीटर

Question Type : MCQ
Question ID : 264330137930
Option 1 ID : 264330540329
Option 2 ID : 264330540327
Option 3 ID : 264330540330
Option 4 ID : 264330540328
Status : Answered
Chosen Option : 2

Q.22 'लॉन्ग वॉक टू फ्रीडम (Long Walk to Freedom)' _____ की आत्मकथा है।

- Ans
- ✗ 1. बेंजामिन फ्रैंकलिन
 - ✓ 2. नेल्सन मंडेला
 - ✗ 3. जवाहर लाल नेहरू
 - ✗ 4. महात्मा गांधी

Question Type : MCQ
Question ID : 264330134661
Option 1 ID : 264330527602
Option 2 ID : 264330527600
Option 3 ID : 264330527601
Option 4 ID : 264330527599
Status : Answered
Chosen Option : 4

Q.23 2022 के शीतकालीन ओलंपिक खेल बीजिंग में _____ के महीने में आयोजित किए गए थे।

- Ans
- 1. अप्रैल
 - 2. फरवरी
 - 3. जनवरी
 - 4. मार्च

Question Type : MCQ
Question ID : 264330135507
Option 1 ID : 264330530938
Option 2 ID : 264330530936
Option 3 ID : 264330530935
Option 4 ID : 264330530937
Status : Not Answered
Chosen Option : --

Q.24 भारतीय राष्ट्रीय कांग्रेस का विभाजन सन् _____ में हुआ।

- Ans
- 1. 1907
 - 2. 1903
 - 3. 1905
 - 4. 1901

Question Type : MCQ
Question ID : 264330138345
Option 1 ID : 264330541990
Option 2 ID : 264330541988
Option 3 ID : 264330541989
Option 4 ID : 264330541987
Status : Answered
Chosen Option : 1

Q.25 केंद्रीय बैंक द्वारा देश के आर्थिक हित में बैंकों को ऋण (credit) देने के लिए प्रोत्साहित करने के लिए अपनाई जाने वाली एक विधि को _____ कहते हैं।

- Ans
- 1. ऋण-राशि-नियतन (Credit Rationing)
 - 2. सीमांत स्थायी सुविधा (Marginal Standing Facility)
 - 3. नैतिक दबाव (Moral Suasion)
 - 4. सीमा अनिवार्यता (Margin Requirements)

Question Type : MCQ
Question ID : 264330134668
Option 1 ID : 264330527628
Option 2 ID : 264330527627
Option 3 ID : 264330527630
Option 4 ID : 264330527629
Status : Answered
Chosen Option : 1

Q.1 Find the part of the given sentence that has an error in it. If there is no error, choose 'No error'.

We don't know exactly when first stars formed.

- Ans**
- 1. stars formed.
 - 2. We don't know
 - 3. exactly when first
 - 4. No error

Question Type : **MCQ**
Question ID : **264330135309**
Option 1 ID : **264330530149**
Option 2 ID : **264330530147**
Option 3 ID : **264330530148**
Option 4 ID : **264330530150**
Status : **Answered**
Chosen Option : **1**

Q.2 A sentence has been given with a blank to be filled with an appropriate option. Choose the correct alternative.

I did not _____ everyone all at once.

- Ans**
- 1. losing
 - 2. lose
 - 3. loose
 - 4. lost

Question Type : **MCQ**
Question ID : **264330134803**
Option 1 ID : **264330528158**
Option 2 ID : **264330528155**
Option 3 ID : **264330528157**
Option 4 ID : **264330528156**
Status : **Answered**
Chosen Option : **2**

Q.3 A sentence has been given with a blank to be filled with an appropriate option. Choose the correct alternative.

Nigeria _____ restrictions in place since 2015 in a bid to boost local production.

- Ans**
- 1. has had
 - 2. had has
 - 3. have had
 - 4. have has

Question Type : **MCQ**
Question ID : **264330136776**
Option 1 ID : **264330535809**
Option 2 ID : **264330535808**
Option 3 ID : **264330535807**
Option 4 ID : **264330535810**
Status : **Answered**
Chosen Option : **3**

Q.4 Choose the incorrectly spelt word.

- Ans**
- 1. Serious
 - 2. Positon
 - 3. Continue
 - 4. Source

Question Type : **MCQ**
Question ID : **264330134819**
Option 1 ID : **264330528215**
Option 2 ID : **264330528216**
Option 3 ID : **264330528218**
Option 4 ID : **264330528217**
Status : **Answered**
Chosen Option : **2**

Q.5 Select the most appropriate option to substitute the bracketed segment in the given sentence. If there is no need to substitute it, select 'no substitution required'.

We were asked by (Jane's aunt where she was last night.)

- Ans**
- 1. Jane's aunt where was she was last night?
 - 2. Jane's aunt where was she last night.
 - 3. No substitution required
 - 4. Jane aunt's where she was last night?

Question Type : **MCQ**
Question ID : **264330136294**
Option 1 ID : **264330533957**
Option 2 ID : **264330533955**
Option 3 ID : **264330533958**
Option 4 ID : **264330533956**
Status : **Answered**
Chosen Option : **2**

Q.6 Choose the word that can substitute the given group of words.

Liable to catch fire easily

- Ans**
- 1. Venial
 - 2. Agnostic
 - 3. Inflammable
 - 4. Incombustible

Question Type : **MCQ**
Question ID : **264330134812**
Option 1 ID : **264330528190**
Option 2 ID : **264330528187**
Option 3 ID : **264330528188**
Option 4 ID : **264330528189**
Status : **Answered**
Chosen Option : **3**

Q.7 Find the part of the given sentence that has an error in it. If there is no error, choose 'No error'.

Until few decades ago, researchers believed the moon was completely dry.

- Ans**
- 1. No error
 - 2. Until few decades ago,
 - 3. researchers believed the moon
 - 4. was completely dry.

Question Type : **MCQ**
Question ID : **264330134799**
Option 1 ID : **264330528142**
Option 2 ID : **264330528139**
Option 3 ID : **264330528140**
Option 4 ID : **264330528141**
Status : **Answered**
Chosen Option : **2**

Q.8 In the following question, out of the given four alternatives, select the alternative which best expresses the meaning of the Idiom/Phrase.

To mind one's P's and Q's

- Ans**
- 1. To be polite and careful in one's behaviour and speech
 - 2. To supervise something carefully
 - 3. To make amends after a fight
 - 4. To write English alphabets accurately

Question Type : **MCQ**
Question ID : **264330135276**
Option 1 ID : **264330530021**
Option 2 ID : **264330530022**
Option 3 ID : **264330530019**
Option 4 ID : **264330530020**
Status : **Answered**
Chosen Option : **1**

Q.9 Identify the segment that contains a grammatical error. If there is no error, select 'No error'

Droughts effect water supply in Southern/ Spain, which is increasingly turning towards/ seawater desalination to meet its water needs.

- Ans**
- 1. Droughts effect water supply in Southern
 - 2. No error
 - 3. seawater desalination to meet its water needs.
 - 4. Spain, which is increasingly turning towards

Question Type : **MCQ**
Question ID : **264330136291**
Option 1 ID : **264330533943**
Option 2 ID : **264330533946**
Option 3 ID : **264330533945**
Option 4 ID : **264330533944**
Status : **Answered**
Chosen Option : **3**

Q.10 Fill in the blank with the most appropriate option.

Then Bheeshma entered their lives with his _____ lion's laugh.

- Ans
- 1. elephantine
 - 2. narrow
 - 3. moment
 - 4. large

Question Type : MCQ
Question ID : 264330136715
Option 1 ID : 264330535574
Option 2 ID : 264330535571
Option 3 ID : 264330535573
Option 4 ID : 264330535572
Status : Answered
Chosen Option : 4

Q.11 Select the appropriate antonym for the underlined word.

We will brush out the damp hair.

- Ans
- 1. droughty
 - 2. saturated
 - 3. moist
 - 4. sticky

Question Type : MCQ
Question ID : 264330134816
Option 1 ID : 264330528205
Option 2 ID : 264330528206
Option 3 ID : 264330528204
Option 4 ID : 264330528203
Status : Answered
Chosen Option : 2

Q.12 Select the appropriate synonym for the underlined word.

Photosynthesis can be hindered by extreme temperatures.

- Ans
- 1. discouraged
 - 2. tolerated
 - 3. gained
 - 4. revert

Question Type : MCQ
Question ID : 264330134813
Option 1 ID : 264330528192
Option 2 ID : 264330528194
Option 3 ID : 264330528191
Option 4 ID : 264330528193
Status : Answered
Chosen Option : 4

Q.13 Improve the underlined part of the sentence. Choose 'No improvement' as an answer if the sentence is grammatically correct.

This has sharp decreased the cases of water-borne diseases.

- Ans**
- 1. sharper decreases
 - 2. No improvement
 - 3. sharply decreased
 - 4. sharp decrease

Question Type : **MCQ**
Question ID : **264330134828**
Option 1 ID : **264330528253**
Option 2 ID : **264330528254**
Option 3 ID : **264330528252**
Option 4 ID : **264330528251**
Status : **Answered**
Chosen Option : **3**

Q.14 Four sentences are given, out of which three have spelling errors. Choose the sentence with all correctly spelt words.

- Ans**
- 1. Never interrupt an earnest or apparently interesting conversation.
 - 2. The person who received the alert doesn't know when it happened.
 - 3. Life is complicated, and there's a lot to be grateful for.
 - 4. The goal of this endeavor is to create significant ties for your city.

Question Type : **MCQ**
Question ID : **264330136714**
Option 1 ID : **264330535567**
Option 2 ID : **264330535568**
Option 3 ID : **264330535570**
Option 4 ID : **264330535569**
Status : **Answered**
Chosen Option : **2**

Q.15 Improve the underlined part of the sentence. Choose 'No improvement' as an answer if the sentence is grammatically correct.

The loft is fill in hay for the winter.

- Ans**
- 1. No improvement
 - 2. filled with
 - 3. fills with
 - 4. fill with

Question Type : **MCQ**
Question ID : **264330134454**
Option 1 ID : **264330526790**
Option 2 ID : **264330526788**
Option 3 ID : **264330526789**
Option 4 ID : **264330526787**
Status : **Answered**
Chosen Option : **4**

Q.16 Select the most appropriate option to fill in the blank.

Some health experts optimistically argue that disinfecting indoor spaces with light could be a _____.

- Ans**
- 1. game-changer
 - 2. interchanger
 - 3. hand over
 - 4. roundabout

Question Type : **MCQ**
Question ID : **264330134822**
Option 1 ID : **264330528230**
Option 2 ID : **264330528228**
Option 3 ID : **264330528229**
Option 4 ID : **264330528227**
Status : **Answered**
Chosen Option : **1**

Q.17 Choose the word that can substitute the given group of words.

A ground where the last funeral rites are performed

- Ans**
- 1. Mortuary
 - 2. Barracks
 - 3. Crematorium
 - 4. Tomb

Question Type : **MCQ**
Question ID : **264330135270**
Option 1 ID : **264330529996**
Option 2 ID : **264330529995**
Option 3 ID : **264330529997**
Option 4 ID : **264330529998**
Status : **Answered**
Chosen Option : **1**

Q.18 Select the most appropriate synonym to substitute the bracketed word in the given sentence.

So can our community leaders come up with a plan of action to help (alleviate) this problem?

- Ans**
- 1. Aggravate
 - 2. Falter
 - 3. Altruistic
 - 4. Diminish

Question Type : **MCQ**
Question ID : **264330136734**
Option 1 ID : **264330535646**
Option 2 ID : **264330535644**
Option 3 ID : **264330535643**
Option 4 ID : **264330535645**
Status : **Answered**
Chosen Option : **3**

Q.19 Choose the word that is opposite in meaning to the given word.

Absorb

- Ans**
- 1. Permit
 - 2. Dwindle
 - 3. Dismiss
 - 4. Reconcile

Question Type : **MCQ**

Question ID : **264330136865**

Option 1 ID : **264330536147**

Option 2 ID : **264330536150**

Option 3 ID : **264330536149**

Option 4 ID : **264330536148**

Status : **Answered**

Chosen Option : **3**

Q.20 In the following question, out of the given four alternatives, select the alternative which best expresses the meaning of the Idiom/Phrase.

Hard/tough nut to crack

- Ans**
- 1. A difficult person, problem or situation
 - 2. Not being able to enjoy oneself
 - 3. To understand clearly
 - 4. Good for nothing

Question Type : **MCQ**

Question ID : **264330134818**

Option 1 ID : **264330528211**

Option 2 ID : **264330528213**

Option 3 ID : **264330528214**

Option 4 ID : **264330528212**

Status : **Answered**

Chosen Option : **1**

Comprehension:

In the following passage some of the words have been deleted. Read the passage carefully and select the correct answer for the given blank out of the four alternatives.

Gardenia is one of the most (1) _____ flowers, producing one of the most beloved scents in the garden world. Fall or spring is the best time to (2) _____ this shrub in warmer climates. It also (3) _____ a fragrant houseplant, though it can be fussy about indoor humidity. Container plants can be (4) _____ outdoors during summer and returned to moderate indoor temperatures in the (5) _____.

SubQuestion No : 21

Q.21 Select the most appropriate option to fill in the blank No. 1.

- Ans
- 1. polluted
 - 2. fragrant
 - 3. stenchy
 - 4. soluble

Question Type : MCQ

Question ID : 264330136856

Option 1 ID : 264330536114

Option 2 ID : 264330536113

Option 3 ID : 264330536111

Option 4 ID : 264330536112

Status : Answered

Chosen Option : 2

Comprehension:

In the following passage some of the words have been deleted. Read the passage carefully and select the correct answer for the given blank out of the four alternatives.

Gardenia is one of the most (1) _____ flowers, producing one of the most beloved scents in the garden world. Fall or spring is the best time to (2) _____ this shrub in warmer climates. It also (3) _____ a fragrant houseplant, though it can be fussy about indoor humidity. Container plants can be (4) _____ outdoors during summer and returned to moderate indoor temperatures in the (5) _____.

SubQuestion No : 22

Q.22 Select the most appropriate option to fill in the blank No. 2.

- Ans
- 1. plant
 - 2. train
 - 3. host
 - 4. stamp

Question Type : MCQ

Question ID : 264330136857

Option 1 ID : 264330536118

Option 2 ID : 264330536115

Option 3 ID : 264330536116

Option 4 ID : 264330536117

Status : Answered

Chosen Option : 1

Comprehension:

In the following passage some of the words have been deleted. Read the passage carefully and select the correct answer for the given blank out of the four alternatives.

Gardenia is one of the most (1) _____ flowers, producing one of the most beloved scents in the garden world. Fall or spring is the best time to (2) _____ this shrub in warmer climates. It also (3) _____ a fragrant houseplant, though it can be fussy about indoor humidity. Container plants can be (4) _____ outdoors during summer and returned to moderate indoor temperatures in the (5) _____.

SubQuestion No : 23

Q.23 Select the most appropriate option to fill in the blank No. 3.

- Ans**
- 1. make
 - 2. makes
 - 3. made
 - 4. making

Question Type : **MCQ**
Question ID : **264330136858**
Option 1 ID : **264330536119**
Option 2 ID : **264330536122**
Option 3 ID : **264330536120**
Option 4 ID : **264330536121**
Status : **Answered**
Chosen Option : **2**

Comprehension:

In the following passage some of the words have been deleted. Read the passage carefully and select the correct answer for the given blank out of the four alternatives.

Gardenia is one of the most (1) _____ flowers, producing one of the most beloved scents in the garden world. Fall or spring is the best time to (2) _____ this shrub in warmer climates. It also (3) _____ a fragrant houseplant, though it can be fussy about indoor humidity. Container plants can be (4) _____ outdoors during summer and returned to moderate indoor temperatures in the (5) _____.

SubQuestion No : 24

Q.24 Select the most appropriate option to fill in the blank No. 4.

- Ans**
- 1. classified
 - 2. sorted
 - 3. sailed
 - 4. placed

Question Type : **MCQ**
Question ID : **264330136859**
Option 1 ID : **264330536126**
Option 2 ID : **264330536125**
Option 3 ID : **264330536123**
Option 4 ID : **264330536124**
Status : **Answered**
Chosen Option : **4**

Comprehension:

In the following passage some of the words have been deleted. Read the passage carefully and select the correct answer for the given blank out of the four alternatives.

Gardenia is one of the most (1) _____ flowers, producing one of the most beloved scents in the garden world. Fall or spring is the best time to (2) _____ this shrub in warmer climates. It also (3) _____ a fragrant houseplant, though it can be fussy about indoor humidity. Container plants can be (4) _____ outdoors during summer and returned to moderate indoor temperatures in the (5) _____.

SubQuestion No : 25

Q.25 Select the most appropriate option to fill in the blank No. 5.

- Ans**
- ✓ 1. fall
 - ✗ 2. tropics
 - ✗ 3. arena
 - ✗ 4. climate

Question Type : **MCQ**

Question ID : **264330136860**

Option 1 ID : **264330536130**

Option 2 ID : **264330536127**

Option 3 ID : **264330536129**

Option 4 ID : **264330536128**

Status : **Answered**

Chosen Option : **4**

Multi Tasking Non Technical Staff and Havaladar CBIC and CBN Examination 2022

Roll Number	KD Job Updates
Candidate Name	KD Job Updates
Venue Name	iON Digital Zone iDZ Laxman Nagar
Exam Date	18/05/2023
Exam Time	9:00 AM - 10:30 AM
Subject	MTS Non Tech Havaladar CBIC and CBN Examination 2022

Section : Numerical and Mathematical Ability

Q.1 A ने क्रमशः Rs.400 और Rs.600 में दो वस्तुएँ खरीदीं और क्रमशः 10% और 20% के लाभ पर बेच दीं। उसका कुल लाभ प्रतिशत कितना था?

- Ans
- 1. 15%
 - 2. 18%
 - 3. 20%
 - 4. 16%

Question Type : MCQ

Question ID : 264330133782

Option 1 ID : 264330524151

Option 2 ID : 264330524153

Option 3 ID : 264330524154

Option 4 ID : 264330524152

Status : Answered

Chosen Option : 4

Q.2 एक वस्तु को 14% की हानि पर बेचा गया। यदि इसे Rs. 756 अधिक में बेचा जाता, तो 7% का लाभ होता। वस्तु का क्रय मूल्य ज्ञात कीजिए।

- Ans
- 1. Rs.3600
 - 2. Rs.3000
 - 3. Rs.2300
 - 4. Rs.5000

Question Type : MCQ

Question ID : 264330135375

Option 1 ID : 264330530407

Option 2 ID : 264330530410

Option 3 ID : 264330530408

Option 4 ID : 264330530409

Status : Answered

Chosen Option : 1

Q.3 एक खेत में 8 श्रमिक एक कार्य को 22 दिनों में पूरा करते हैं। यदि इस कार्य को 44 दिनों में पूरा करना हो, तो कितने श्रमिकों की आवश्यकता होगी?

- Ans 1. 4
 2. 5
 3. 2
 4. 3

Question Type : MCQ

Question ID : 264330135405

Option 1 ID : 264330530528

Option 2 ID : 264330530529

Option 3 ID : 264330530530

Option 4 ID : 264330530527

Status : Answered

Chosen Option : 1

Q.4 यदि एक रेफ्रिजरेटर का क्रय मूल्य Rs.17200 है और हानि प्रतिशत 8% है, तो रेफ्रिजरेटर का विक्रय मूल्य (Rs. में) क्या है?

- Ans 1. Rs.14444
 2. Rs.14564
 3. Rs.15824
 4. Rs.15500

Question Type : MCQ

Question ID : 264330133783

Option 1 ID : 264330524155

Option 2 ID : 264330524158

Option 3 ID : 264330524157

Option 4 ID : 264330524156

Status : Answered

Chosen Option : 3

Q.5 $14 + [100 \div \{60 \div (18 \div 6)\}]$ of 400 का मान है:

- Ans 1. 2020
 2. 2014
 3. 2015
 4. 2000

Question Type : MCQ

Question ID : 264330133776

Option 1 ID : 264330524130

Option 2 ID : 264330524128

Option 3 ID : 264330524129

Option 4 ID : 264330524127

Status : Answered

Chosen Option : 2

Q.6 X अकेले किसी कार्य को 18 दिनों में पूरा कर सकता है, Y अकेले उसी कार्य को 9 दिनों में पूरा कर सकता है। यदि X, Y और Z मिलकर उसी कार्य को 4 दिनों में पूरा कर सकते हैं, तो Z अकेले उस कार्य को कितने दिनों में पूरा कर सकता है?

- Ans**
- ✓ 1. 12 दिन
 - ✗ 2. 16 दिन
 - ✗ 3. 14 दिन
 - ✗ 4. 10 दिन

Question Type : **MCQ**

Question ID : **264330138740**

Option 1 ID : **264330543568**

Option 2 ID : **264330543570**

Option 3 ID : **264330543569**

Option 4 ID : **264330543567**

Status : **Answered**

Chosen Option : **1**

Q.7 अधिक कोण विभुज की सबसे लंबी भुजा 7 cm है और विभुज की अन्य दो भुजाएँ 4 cm और 5 cm हैं। विभुज का क्षेत्रफल ज्ञात कीजिए।

- Ans**
- ✓ 1. $4\sqrt{6} \text{ cm}^2$
 - ✗ 2. $1\sqrt{3} \text{ cm}^2$
 - ✗ 3. $3\sqrt{2} \text{ cm}^2$
 - ✗ 4. $6\sqrt{3} \text{ cm}^2$

Question Type : **MCQ**

Question ID : **264330135409**

Option 1 ID : **264330530543**

Option 2 ID : **264330530546**

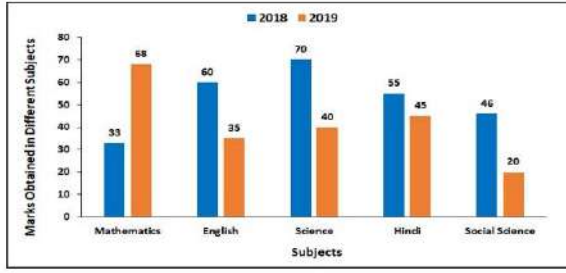
Option 3 ID : **264330530545**

Option 4 ID : **264330530544**

Status : **Answered**

Chosen Option : **1**

Q.8 निम्नलिखित दंड आलेख में वर्ष 2018 और 2019 में 5 विभिन्न विषयों में एक छात्र के प्राप्तांकों को दर्शाया गया है। वर्ष 2018 के कुल प्राप्तांकों और वर्ष 2019 के कुल प्राप्तांकों का अनुपात ज्ञात कीजिए।



Marks Obtained in Different Subjects = विभिन्न विषयों में प्राप्त अंक, Mathematics = गणित, English = अंग्रेज़ी, Science = विज्ञान, Hindi = हिन्दी, Social Science = सामाजिक विज्ञान, Subjects = विषय

- Ans
- ✓ 1. 33 : 26
 - ✗ 2. 66 : 23
 - ✗ 3. 44 : 15
 - ✗ 4. 80 : 3

Question Type : MCQ

Question ID : 264330133792

Option 1 ID : 264330524191

Option 2 ID : 264330524193

Option 3 ID : 264330524192

Option 4 ID : 264330524194

Status : Answered

Chosen Option : 1

Q.9 संख्या 15 और 30 का तृतीय समानुपाती क्या है?

- Ans
- ✗ 1. 45
 - ✗ 2. 40
 - ✓ 3. 60
 - ✗ 4. 50

Question Type : MCQ

Question ID : 264330133785

Option 1 ID : 264330524165

Option 2 ID : 264330524163

Option 3 ID : 264330524166

Option 4 ID : 264330524164

Status : Answered

Chosen Option : 3

Q.10 यदि A का वेतन B के वेतन से 60% कम है, तो B का वेतन A के वेतन से कितने प्रतिशत अधिक है?

- Ans
- 1. 40%
 - 2. 150%
 - 3. 120%
 - 4. 60%

Question Type : MCQ

Question ID : 264330133780

Option 1 ID : 264330524144

Option 2 ID : 264330524146

Option 3 ID : 264330524143

Option 4 ID : 264330524145

Status : Answered

Chosen Option : 2

Q.11 $2[3.5 \times 3.5 + 2.5 \times 2.5]$ का मान क्या है?

- Ans
- 1. 38
 - 2. 39
 - 3. 37
 - 4. 36

Question Type : MCQ

Question ID : 264330137891

Option 1 ID : 264330540173

Option 2 ID : 264330540174

Option 3 ID : 264330540172

Option 4 ID : 264330540171

Status : Answered

Chosen Option : 3

Q.12 दो संख्याओं के लघुत्तम समापवर्त्य (LCM) और महत्तम समापवर्तक (HCF) का गुणनफल 2028 है। यदि एक संख्या 78 है, तो दूसरी संख्या क्या है?

- Ans
- 1. 26
 - 2. 13
 - 3. 52
 - 4. 39

Question Type : MCQ

Question ID : 264330138348

Option 1 ID : 264330542000

Option 2 ID : 264330541999

Option 3 ID : 264330542002

Option 4 ID : 264330542001

Status : Answered

Chosen Option : 1

Q.13 एक बस की चाल 108 km/hr है। बस द्वारा 2 सेकंड में तय की गई दूरी ज्ञात कीजिए।

- Ans
- 1. 20 m
 - 2. 60 m
 - 3. 30 m
 - 4. 16 m

Question Type : MCQ

Question ID : 264330133788

Option 1 ID : 264330524178

Option 2 ID : 264330524177

Option 3 ID : 264330524175

Option 4 ID : 264330524176

Status : Answered

Chosen Option : 2

Q.14 एक ऑटो रिक्शा बिंदु P से Q तक 20 km और फिर Q से R तक 25 km की यात्रा करता है। इस यात्रा में कुल 1 घंटा 30 मिनट का समय लगा। ऑटो रिक्शा की औसत चाल क्या थी?

- Ans
- 1. 15 km/hr
 - 2. 45 km/hr
 - 3. 60 km/hr
 - 4. 30 km/hr

Question Type : MCQ

Question ID : 264330138729

Option 1 ID : 264330543525

Option 2 ID : 264330543524

Option 3 ID : 264330543526

Option 4 ID : 264330543523

Status : Answered

Chosen Option : 4

Q.15 Rs. 11064 की धनराशि 5% वार्षिक साधारण ब्याज दर पर x वर्षों में Rs. 2766 का ब्याज देती है। x का मान क्या होगा?

- Ans
- 1. 2
 - 2. 3
 - 3. 4
 - 4. 5

Question Type : MCQ

Question ID : 264330138402

Option 1 ID : 264330542217

Option 2 ID : 264330542216

Option 3 ID : 264330542215

Option 4 ID : 264330542218

Status : Answered

Chosen Option : 4

Q.16 तीन संख्याएँ 4 : 5 : 7 के अनुपात में हैं। सबसे छोटी और सबसे बड़ी संख्या का योग 44 है। दूसरी सबसे छोटी संख्या कौनसी है?

- Ans
- 1. 32
 - 2. 28
 - 3. 20
 - 4. 24

Question Type : MCQ

Question ID : 264330133784

Option 1 ID : 264330524160

Option 2 ID : 264330524162

Option 3 ID : 264330524159

Option 4 ID : 264330524161

Status : Answered

Chosen Option : 3

Q.17 नीचे दी गई तालिका में विभिन्न कंपनियों द्वारा किए गए टेलीविज़न और फ्रिज के उत्पादन को दर्शाया गया है।

कंपनियाँ	टेलीविज़न	फ्रिज
P	80	100
Q	70	50
R	60	40
S	50	70
T	90	55

निम्नलिखित में से कौन-सा कथन सही नहीं है?

- I. R द्वारा किए गए टेलीविज़न और फ्रिज के औसत उत्पादन और S द्वारा किए गए टेलीविज़न और फ्रिज के औसत उत्पादन के बीच का अंतर 10 है।
- II. P द्वारा किया गया टेलीविज़न और फ्रिज का उत्पादन, I द्वारा किए गए टेलीविज़न के उत्पादन का 20 प्रतिशत है।

- Ans
- 1. I और II दोनों
 - 2. केवल I
 - 3. न तो I और न ही II
 - 4. केवल II

Question Type : MCQ

Question ID : 264330137892

Option 1 ID : 264330540177

Option 2 ID : 264330540175

Option 3 ID : 264330540178

Option 4 ID : 264330540176

Status : Answered

Chosen Option : 4

Q.18 प्रत्येक 125 cm^3 आयतन वाले 2 घनों को एक सिरे से दूसरे सिरे तक जोड़ा जाता है। परिणामी घनाभ का पृष्ठीय क्षेत्रफल कितना है?

- Ans
- 1. 125 cm^2
 - 2. 325 cm^2
 - 3. 250 cm^2
 - 4. 350 cm^2

Question Type : MCQ

Question ID : 264330138745

Option 1 ID : 264330543587

Option 2 ID : 264330543589

Option 3 ID : 264330543588

Option 4 ID : 264330543590

Status : Answered

Chosen Option : 3

Q.19 Rs.7500 की धनराशि वार्षिक रूप से संयोजित चक्रवृद्धि ब्याज पर दो वर्ष में Rs.15000 हो जाती है। चार वर्ष में Rs.7500 की धनराशि कितनी हो जाएगी?

- Ans
- 1. Rs.30000
 - 2. Rs.60000
 - 3. Rs.45000
 - 4. Rs.50000

Question Type : MCQ

Question ID : 264330133787

Option 1 ID : 264330524171

Option 2 ID : 264330524173

Option 3 ID : 264330524172

Option 4 ID : 264330524174

Status : Answered

Chosen Option : 3

Q.20 एक छात्र ने पाँच विषयों में 100 में से 77, 80, 88, 73 और 62 अंक प्राप्त किए। उसके अंकों का औसत कितना है?

- Ans
- 1. 74
 - 2. 76
 - 3. 75
 - 4. 78

Question Type : MCQ

Question ID : 264330133778

Option 1 ID : 264330524135

Option 2 ID : 264330524137

Option 3 ID : 264330524138

Option 4 ID : 264330524136

Status : Answered

Chosen Option : 2

Q.1 एक निश्चित कूट भाषा में, 'NATURE' को 'MASUQE' लिखा जाता है। उस कूट भाषा में 'POTATO' को कैसे लिखा जाएगा?

- Ans
- 1. OSPAOS
 - 2. OOSASO
 - 3. OPSAOS
 - 4. OSSASO

Question Type : MCQ
Question ID : 264330137541
Option 1 ID : 264330538771
Option 2 ID : 264330538774
Option 3 ID : 264330538772
Option 4 ID : 264330538773
Status : Answered
Chosen Option : 2

Q.2 पाँच मित्रों अल्फा, बीटा, गामा, रो और थीटा को एक पंक्ति में उत्तर की ओर मुख करके बैठाया गया है, परंतु जरूरी नहीं है कि वे इसी क्रम में बैठे हैं। बीटा पंक्ति के बाएँ छोर पर बैठा है। अल्फा और गामा के बीच केवल दो मित्र बैठे हैं। अल्फा, बीटा के ठीक बगल में बैठा है और रो, बीटा के दाएँ से दूसरे स्थान पर बैठा है। रो और गामा के बीच कौन बैठा है?

- Ans
- 1. अल्फा
 - 2. कोई भी नहीं
 - 3. बीटा
 - 4. थीटा

Question Type : MCQ
Question ID : 264330133492
Option 1 ID : 264330523002
Option 2 ID : 264330523000
Option 3 ID : 264330522999
Option 4 ID : 264330523001
Status : Answered
Chosen Option : 4

Q.3 पाँच लड़कियाँ अनीता, बबीता, चम्मा, डायना और एरिका की उम्र अलग-अलग है, अनीता केवल डायना और एरिका से छोटी है। एरिका डायना से छोटी है। चम्मा सबसे छोटी है। समूह में चौथी सबसे बड़ी कौन है?

- Ans
- 1. एरिका
 - 2. बबीता
 - 3. डायना
 - 4. चम्मा

Question Type : MCQ
Question ID : 264330133494
Option 1 ID : 264330523008
Option 2 ID : 264330523007
Option 3 ID : 264330523010
Option 4 ID : 264330523009
Status : Answered
Chosen Option : 2

Q.4 Select the option that is related to the third word in the same way as the second word is related to the first word.

Cricket : Pitch :: Golf : ?

- Ans**
- 1. Arena
 - 2. Court
 - 3. Track
 - 4. Course

Question Type : **MCQ**

Question ID : **264330133488**

Option 1 ID : **264330522984**

Option 2 ID : **264330522985**

Option 3 ID : **264330522986**

Option 4 ID : **264330522983**

Status : **Answered**

Chosen Option : **4**

Q.5 नीचे दिए गए समीकरण में कौन-से गणितीय चिन्हों को आपस में बदला जाना चाहिए जिससे यह समीकरण गणितीय रूप से सही हो जाएगा?

$$4 \div 32 + 8 \times 9 - 5 = 35$$

- Ans**
- 1. \div और \times
 - 2. \div और $+$
 - 3. \times और $+$
 - 4. \times और $-$

Question Type : **MCQ**

Question ID : **264330133501**

Option 1 ID : **264330523035**

Option 2 ID : **264330523036**

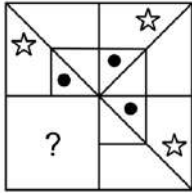
Option 3 ID : **264330523037**

Option 4 ID : **264330523038**

Status : **Answered**

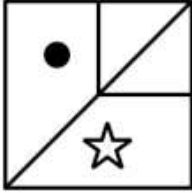
Chosen Option : **2**

Q.6 उस विकल्प आकृति को चुनिए जो नीचे दी गई आकृति में पैटर्न को पूरा करने के लिए प्रश्न चिन्ह (?) के स्थान पर आएगी।
(घूर्णन की अनुमति नहीं है)।

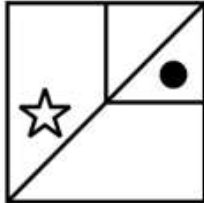


Ans

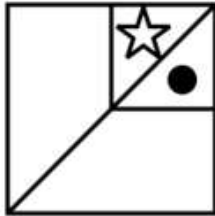
✗ 1.



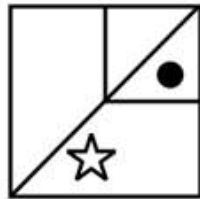
✗ 2.



✗ 3.



✓ 4.



Question Type : **MCQ**

Question ID : **264330133505**

Option 1 ID : **264330523051**

Option 2 ID : **264330523052**

Option 3 ID : **264330523054**

Option 4 ID : **264330523053**

Status : **Answered**

Chosen Option : **4**

Q.7 दी गई श्रृंखला में निम्नलिखित में से कौन-सा अक्षर-समूह प्रश्न चिन्ह (?) के स्थान पर आएगा?
ND, KA, HX, EU, ?

- Ans
- 1. BT
 - 2. AR
 - 3. BS
 - 4. BR

Question Type : MCQ

Question ID : 264330133486

Option 1 ID : 264330522978

Option 2 ID : 264330522977

Option 3 ID : 264330522975

Option 4 ID : 264330522976

Status : Answered

Chosen Option : 4

Q.8 दो कथन दिए गए हैं और दो निष्कर्ष I और II दिए गए हैं। कथनों को सत्य मानते हुए, चाहे वे सामान्यतः ज्ञात तथ्यों से अलग प्रतीत होते हों, निश्चय कीजिए कि कौन-सा निष्कर्ष तार्किक रूप से कथनों के अनुसार है।
कथन:
कोई अंतरिक्ष यात्री, लंबा नहीं है।
कुछ लंबे, नीले हैं।

निष्कर्ष:

I. कुछ अंतरिक्ष यात्री, नीले हैं।

II. कोई लंबा, अंतरिक्ष यात्री नहीं है।

- Ans
- 1. सिर्फ निष्कर्ष I कथनों के अनुसार है
 - 2. सिर्फ निष्कर्ष II कथनों के अनुसार है
 - 3. निष्कर्ष I और II में से कोई भी कथनों के अनुसार नहीं है
 - 4. दोनों निष्कर्ष I और II कथनों के अनुसार है

Question Type : MCQ

Question ID : 264330133495

Option 1 ID : 264330523011

Option 2 ID : 264330523012

Option 3 ID : 264330523014

Option 4 ID : 264330523013

Status : Answered

Chosen Option : 2

Q.9 दी गई श्रृंखला में निम्नलिखित में से कौन-सी संख्या प्रश्न चिन्ह (?) के स्थान पर आएगी?
47, 48, 44, 53, 37, ?

- Ans
- 1. 55
 - 2. 52
 - 3. 64
 - 4. 62

Question Type : MCQ
Question ID : 264330133498
Option 1 ID : 264330523025
Option 2 ID : 264330523023
Option 3 ID : 264330523026
Option 4 ID : 264330523024
Status : Answered
Chosen Option : 4

Q.10 उस समुच्चय को चुनिए जिसमें संख्याएँ ठीक उसी प्रकार से संबंधित हैं जिस प्रकार निम्नलिखित समुच्चयों की संख्याएँ संबंधित हैं। (ध्यान दें: संख्याओं को उनके घटक अंकों में अलग-अलग किए बिना, पूर्ण संख्याओं पर संक्रियाएँ की जानी चाहिए। उदा. 13 - 13 पर संक्रियाएँ जैसे 13 को जोड़ना /घटाना/गुणा करना आदि किया जा सकता है। 13 को 1 और 3 में अलग-अलग करने की और फिर 1 और 3 पर गणितीय संक्रियाएँ करने की अनुमति नहीं है)

(13, 28, 58)
(16, 34, 70)

- Ans
- 1. (15, 32, 64)
 - 2. (18, 36, 110)
 - 3. (12, 26, 56)
 - 4. (11, 24, 50)

Question Type : MCQ
Question ID : 264330133500
Option 1 ID : 264330523031
Option 2 ID : 264330523032
Option 3 ID : 264330523034
Option 4 ID : 264330523033
Status : Answered
Chosen Option : 4

Q.11 एक परीक्षा भवन में सात छात्र अदिति, सिंडी, जेनी, कीर्ति, नीति, प्रीति और स्वीटी एक पंक्ति में उत्तर की ओर मुख करके बैठे हैं, परंतु जरूरी नहीं है कि वे इसी क्रम में बैठे हैं। सिंडी, स्वीटी के दाएँ से तीसरे स्थान पर बैठी है। अदिति और प्रीति, सिंडी की निकटतम पड़ोसी हैं। प्रीति और स्वीटी के बीच दो से अधिक छात्र बैठे हैं। जेनी नीति की इकलौती पड़ोसी है। जेनी अदिति के दाएँ पर बैठी है। कीर्ति के स्थान के अनुसार नीति का स्थान क्या है?

- Ans
- 1. दाएँ से पाँचवाँ
 - 2. बाएँ से पाँचवाँ
 - 3. दाएँ से तीसरा
 - 4. बाएँ से तीसरा

Question Type : MCQ
Question ID : 264330133493
Option 1 ID : 264330523004
Option 2 ID : 264330523006
Option 3 ID : 264330523003
Option 4 ID : 264330523005
Status : Answered
Chosen Option : 1

Q.12 दो कथन दिए गए हैं और दो निष्कर्ष I और II दिए गए हैं। कथनों को सत्य मानते हुए, चाहे वे सामान्यतः ज्ञात तथ्यों से अलग प्रतीत होते हों, निश्चय कीजिए कि कौन-सा निष्कर्ष तार्किक रूप से कथनों के अनुसार है।

कथन:

सभी मोबाइल, विद्युत उपकरण हैं।

कुछ टेलीफोन विद्युत उपकरण हैं।

निष्कर्ष:

I. कोई मोबाइल टेलीफोन नहीं है।

II. कुछ मोबाइल टेलीफोन हैं।

Ans 1. सिर्फ निष्कर्ष II कथनों के अनुसार है

2.

न तो निष्कर्ष I और न ही निष्कर्ष II में से कोई भी कथनों के अनुसार है

3. दोनों निष्कर्ष I और II कथनों के अनुसार है

4. सिर्फ निष्कर्ष I कथनों के अनुसार है

Question Type : MCQ

Question ID : 264330133496

Option 1 ID : 264330523016

Option 2 ID : 264330523018

Option 3 ID : 264330523017

Option 4 ID : 264330523015

Status : Answered

Chosen Option : 4

Q.13 उस विकल्प को चुनिए जो तीसरे शब्द से ठीक उसी तरह संबंधित है जिस तरह दूसरा शब्द पहले शब्द से संबंधित है।
भालू : गुरगना:: हाथी : ?

Ans 1. दहाड़ना (Roar)

2. फुफकारना (Hiss)

3. रेंकना (Bray)

4. चिंघाड़ना (Trumpet)

Question Type : MCQ

Question ID : 264330133487

Option 1 ID : 264330522981

Option 2 ID : 264330522982

Option 3 ID : 264330522979

Option 4 ID : 264330522980

Status : Answered

Chosen Option : 4

Q.14 उस विकल्प को चुनिए जो तीसरी संख्या से ठीक उसी तरह संबंधित है जिस तरह दूसरी संख्या पहली संख्या से संबंधित है।

8 : 514 :: 6 : ?

- Ans
- 1. 238
 - 2. 218
 - 3. 208
 - 4. 228

Question Type : MCQ

Question ID : 264330133499

Option 1 ID : 264330523030

Option 2 ID : 264330523027

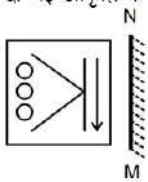
Option 3 ID : 264330523028

Option 4 ID : 264330523029

Status : Answered

Chosen Option : 2

Q.15 दी गई आकृति के उस सही दर्पण प्रतिबिंब को चुनिए, जो दर्पण MN को आकृति के दाईं ओर रखने पर बनेगा।



Ans

- 1.
- 2.
- 3.
- 4.

Question Type : MCQ

Question ID : 264330137806

Option 1 ID : 264330539834

Option 2 ID : 264330539831

Option 3 ID : 264330539832

Option 4 ID : 264330539833

Status : Answered

Chosen Option : 1

Q.16 एक निश्चित कूट भाषा में, 'FINGER' को '69147518' लिखा जाता है और 'DOG' को '4157' लिखा जाता है। उस कूट भाषा में 'FOREST' को कैसे लिखा जाएगा?

- Ans
- 1. 6151851921
 - 2. 6151851820
 - 3. 6151751920
 - 4. 6151851920

Question Type : MCQ

Question ID : 264330137349

Option 1 ID : 264330538024

Option 2 ID : 264330538025

Option 3 ID : 264330538026

Option 4 ID : 264330538023

Status : Answered

Chosen Option : 4

Q.17 किसी एक खास कूट भाषा में, 'TYPE' को 'SXOD' लिखा जाता है। उस भाषा में 'SING' को कैसे लिखा जाएगा?

- Ans
- 1. RFHM
 - 2. RMHF
 - 3. MRHF
 - 4. RHMf

Question Type : MCQ

Question ID : 264330133390

Option 1 ID : 264330522593

Option 2 ID : 264330522592

Option 3 ID : 264330522594

Option 4 ID : 264330522591

Status : Answered

Chosen Option : 4

Q.18 दी गई श्रृंखला में निम्नलिखित में से कौन-सी संख्या प्रश्न चिन्ह (?) के स्थान पर आएगी?
46, 36, 28, 22, 18, ?

- Ans
- 1. 14
 - 2. 13
 - 3. 16
 - 4. 15

Question Type : MCQ

Question ID : 264330133497

Option 1 ID : 264330523022

Option 2 ID : 264330523021

Option 3 ID : 264330523019

Option 4 ID : 264330523020

Status : Answered

Chosen Option : 4

Q.19 दी गई दो संख्याओं को आपस में बदलने पर निम्नलिखित में से कौन-सा समीकरण सही नहीं होगा?

9 और 3

I. $7 \times 4 \div 2 - 9 + 3 = 22$

II. $9 + 4 - 6 \times 3 \div 2 = -10$

Ans

✓ 1. I और II दोनों

✗ 2. न तो I और न ही II

✗ 3. केवल II

✗ 4. केवल I

Question Type : MCQ

Question ID : 264330138515

Option 1 ID : 264330542669

Option 2 ID : 264330542670

Option 3 ID : 264330542668

Option 4 ID : 264330542667

Status : Answered

Chosen Option : 1

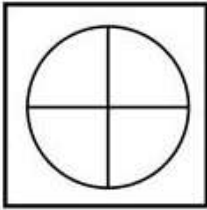
Q.20 उस विकल्प आकृति को चुनिए जिसमें दी गई आकृति (X) उसके भाग के रूप में निहित है (पूर्ण की अनुमति नहीं है)।



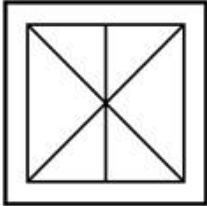
X

Ans

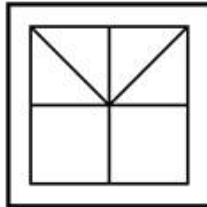
✗ 1.



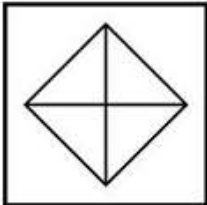
✗ 2.



✓ 3.



✗ 4.



Question Type : **MCQ**

Question ID : **264330137805**

Option 1 ID : **264330539829**

Option 2 ID : **264330539827**

Option 3 ID : **264330539830**

Option 4 ID : **264330539828**

Status : **Answered**

Chosen Option : **3**

Section : **General Awareness**

Q.1 Panthi dance form is associated with _____ state of India.

- Ans
- 1. Maharashtra
 - 2. Kerala
 - 3. Chhattisgarh
 - 4. Punjab

Question Type : MCQ
Question ID : 264330133958
Option 1 ID : 264330524858
Option 2 ID : 264330524856
Option 3 ID : 264330524857
Option 4 ID : 264330524855
Status : Answered
Chosen Option : 3

Q.2 "बाँम्बे" जयश्री रामनाथ भारत की एक प्रसिद्ध _____ गायिका हैं।

- Ans
- 1. कर्नाटक (Carnatic)
 - 2. जैज़ (Jazz)
 - 3. लोक (Folk)
 - 4. हिप हॉप (Hip-hop)

Question Type : MCQ
Question ID : 264330133974
Option 1 ID : 264330524922
Option 2 ID : 264330524920
Option 3 ID : 264330524919
Option 4 ID : 264330524921
Status : Answered
Chosen Option : 1

Q.3 किस विदेशी आक्रमणकारी ने अपने प्रदेश चंद्रगुप्त मौर्य को सौंप दिए थे?

- Ans
- 1. मेनान्डर(Menander)
 - 2. गोंडोफर्नीज (Gondophernes)
 - 3. सेल्यूकस निकेटर (Seleucus Nicator)
 - 4. डेमोस्थनीज (Demosthenes)

Question Type : MCQ
Question ID : 264330137907
Option 1 ID : 264330540236
Option 2 ID : 264330540238
Option 3 ID : 264330540237
Option 4 ID : 264330540235
Status : Answered
Chosen Option : 3

Q.4 निम्नलिखित में से किसे सामान्यतः ब्लड थिन्नर (blood thinner) के नाम से जाना जाता है?

- Ans
- 1. पिंडन निरोधक कारक (Anticaking agent)
 - 2. प्रतिजैविक (Antibiotics)
 - 3. रोग-प्रतिकारक (Antibodies)
 - 4. स्कंदनरोधी (Anticoagulants)

Question Type : MCQ

Question ID : 264330133963

Option 1 ID : 264330524875

Option 2 ID : 264330524877

Option 3 ID : 264330524878

Option 4 ID : 264330524876

Status : Answered

Chosen Option : 1

Q.5 भारतीय संविधान का भाग XVI _____ से संबंधित है।

- Ans
- 1. नगर निगम से संबंधित विशेष प्रावधान
 - 2. कुछ वर्गों से संबंधित विशेष प्रावधान
 - 3. चुनाव
 - 4. संवैधानिक संशोधन

Question Type : MCQ

Question ID : 264330133976

Option 1 ID : 264330524928

Option 2 ID : 264330524927

Option 3 ID : 264330524930

Option 4 ID : 264330524929

Status : Answered

Chosen Option : 2

Q.6 निम्नलिखित में से कौन-सी फसल खरीफ फसल का एक उदाहरण है?

- Ans
- 1. गेहूँ
 - 2. चावल
 - 3. सरसों
 - 4. जौ

Question Type : MCQ

Question ID : 264330137070

Option 1 ID : 264330536924

Option 2 ID : 264330536923

Option 3 ID : 264330536926

Option 4 ID : 264330536925

Status : Answered

Chosen Option : 2

Q.7 भारत में दिल्ली शहर के लिए अक्टूबर 2022 में SAMRIDDI (अवसंरचना विकास के लिए नगर निगम के राजस्व का सुदृढीकरण और संवर्धन (Strengthening and Augmentation of Municipal Revenue for Infrastructure Development)) योजना की शुरुआत किसने की है?

- Ans
- 1. भारत के प्रधानमंत्री (Prime Minister of India)
 - 2. दिल्ली के मुख्यमंत्री (Chief Minister of Delhi)
 - 3. भारत के राष्ट्रपति (President of India)
 - 4. दिल्ली के उपराज्यपाल (Lieutenant Governor)

Question Type : MCQ

Question ID : 264330133956

Option 1 ID : 264330524847

Option 2 ID : 264330524850

Option 3 ID : 264330524848

Option 4 ID : 264330524849

Status : Answered

Chosen Option : 2

Q.8 कौन-सा त्यौहार राक्षस राजा महिषासुर पर देवी दुर्गा की विजय का प्रतीक है?

- Ans
- 1. जन्माष्टमी
 - 2. होली
 - 3. नवरात्रि
 - 4. दिवाली

Question Type : MCQ

Question ID : 264330137897

Option 1 ID : 264330540198

Option 2 ID : 264330540195

Option 3 ID : 264330540196

Option 4 ID : 264330540197

Status : Answered

Chosen Option : 3

Q.9 "एंड देन वन डे: ए मेमॉयर (And then One Day: A Memoir)" निम्नलिखित में से किस बॉलीवुड कलाकार की आत्मकथा है?

- Ans
- 1. प्रियंका चोपड़ा
 - 2. करण जौहर
 - 3. नसीरुद्दीन शाह
 - 4. शाहरुख खान

Question Type : MCQ

Question ID : 264330137078

Option 1 ID : 264330536958

Option 2 ID : 264330536955

Option 3 ID : 264330536957

Option 4 ID : 264330536956

Status : Answered

Chosen Option : 1

Q.10 2011 की जनगणना के अनुसार, भारत में कुल साक्षरता दर (लगभग) कितनी है?

- Ans
- 1. 81%
 - 2. 74%
 - 3. 62%
 - 4. 65%

Question Type : MCQ
Question ID : 264330137722
Option 1 ID : 264330539497
Option 2 ID : 264330539496
Option 3 ID : 264330539495
Option 4 ID : 264330539498
Status : Answered
Chosen Option : 2

Q.11 कलामंडलम कल्याणिकुट्टी अम्मा (Kalamandalam Kalyanikutty Amma) को _____ नृत्य शैली की रूपात्मक संरचना और अलंकरण तैयार करने के लिए जाना जाता है।

- Ans
- 1. कथकली
 - 2. भरतनाट्यम
 - 3. मोहिनीअट्टम
 - 4. कुचिपुडी

Question Type : MCQ
Question ID : 264330137080
Option 1 ID : 264330536966
Option 2 ID : 264330536965
Option 3 ID : 264330536964
Option 4 ID : 264330536963
Status : Answered
Chosen Option : 2

Q.12 सोहम घेंघा (goitre) रोग से पीड़ित है। किसकी कमी इसका सबसे आम कारण है?

- Ans
- 1. आयरन की कमी
 - 2. प्रोटीन की कमी
 - 3. विटामिन ए की कमी
 - 4. आयोडीन की कमी

Question Type : MCQ
Question ID : 264330133962
Option 1 ID : 264330524874
Option 2 ID : 264330524873
Option 3 ID : 264330524871
Option 4 ID : 264330524872
Status : Answered
Chosen Option : 4

Q.13 निम्नलिखित में से कौन-सा कथन गलत है?

Ans 1.

नकद आरक्षित अनुपात (Cash Reserve Ratio) जितना अधिक होगा, बैंकिंग प्रणाली में तरलता उतनी ही कम होगी।

2.

सांविधिक चलनिधि अनुपात (Statutory Liquidity Ratio) जितना कम होगा, बैंकिंग प्रणाली में तरलता उतनी ही अधिक होगी।

3. बैंक दर में वृद्धि से मुद्रा आपूर्ति में कमी आएगी।

4.

नकद आरक्षित अनुपात (Cash Reserve Ratio) जितना कम होगा, बैंकिंग प्रणाली में तरलता उतनी ही कम होगी।

Question Type : MCQ

Question ID : 264330137085

Option 1 ID : 264330536983

Option 2 ID : 264330536985

Option 3 ID : 264330536986

Option 4 ID : 264330536984

Status : Answered

Chosen Option : 4

Q.14 भारत के कितने प्राकृतिक विश्व धरोहर स्थल यूनेस्को (UNESCO) में सूचीबद्ध हैं?

Ans 1. सात

2. पाँच

3. छः

4. चार

Question Type : MCQ

Question ID : 264330138273

Option 1 ID : 264330541702

Option 2 ID : 264330541700

Option 3 ID : 264330541701

Option 4 ID : 264330541699

Status : Answered

Chosen Option : 1

Q.15 निम्नलिखित में से कौन-सा एक सहसंयोजक यौगिक है?

Ans 1. हाइड्रोजन क्लोराइड

2. सोडियम क्लोराइड

3. कैल्शियम कार्बोनेट

4. मैग्नीशियम हाइड्रॉक्साइड

Question Type : MCQ

Question ID : 264330133961

Option 1 ID : 264330524868

Option 2 ID : 264330524867

Option 3 ID : 264330524869

Option 4 ID : 264330524870

Status : Answered

Chosen Option : 4

Q.16 निम्नलिखित में से कौन दक्षिण भारत के पांड्य वंश का प्रसिद्ध शासक था?

- Ans
- 1. करिकाल
 - 2. अशोक
 - 3. नेदुंज चेलियन द्वितीय
 - 4. निज़ाम शाह

Question Type : MCQ
Question ID : 264330133970
Option 1 ID : 264330524903
Option 2 ID : 264330524905
Option 3 ID : 264330524906
Option 4 ID : 264330524904
Status : Answered
Chosen Option : 3

Q.17 नगर पालिकाओं के सभी चुनावों का अधीक्षण, नियंत्रण और संचालन _____ की जिम्मेदारी है।

- Ans
- 1. राज्य निर्वाचन आयोग
 - 2. राज्य के गृह मंत्रालय
 - 3. राज्य के राज्यपाल
 - 4. भारत निर्वाचन आयोग

Question Type : MCQ
Question ID : 264330138282
Option 1 ID : 264330541736
Option 2 ID : 264330541737
Option 3 ID : 264330541738
Option 4 ID : 264330541735
Status : Answered
Chosen Option : 1

Q.18 नवंबर 2022 तक लोकसभा के अध्यक्ष (Speaker) कौन हैं?

- Ans
- 1. ओम बिरला
 - 2. अमित शाह
 - 3. द्रौपदी मुर्मू
 - 4. नरेंद्र मोदी

Question Type : MCQ
Question ID : 264330133977
Option 1 ID : 264330524934
Option 2 ID : 264330524931
Option 3 ID : 264330524933
Option 4 ID : 264330524932
Status : Answered
Chosen Option : 1

Q.19 धर्म सभा के संस्थापक कौन थे?

- Ans
- ✓ 1. राधाकांत देव
 - ✗ 2. दादोबा पांडुरंग
 - ✗ 3. आर.जी. भंडारकर
 - ✗ 4. राजा राम मोहन राय

Question Type : MCQ
Question ID : 264330137910
Option 1 ID : 264330540250
Option 2 ID : 264330540249
Option 3 ID : 264330540248
Option 4 ID : 264330540247
Status : Answered
Chosen Option : 3

Q.20 किस भारतीय क्रिकेटर को 'द वॉल (The Wall)' के नाम से भी जाना जाता है?

- Ans
- ✗ 1. सचिन तेंडुलकर
 - ✗ 2. कपिल देव
 - ✓ 3. राहुल द्रविड़
 - ✗ 4. महेन्द्र सिंह धोनी

Question Type : MCQ
Question ID : 264330133979
Option 1 ID : 264330524941
Option 2 ID : 264330524940
Option 3 ID : 264330524939
Option 4 ID : 264330524942
Status : Answered
Chosen Option : 3

Q.21 _____ दुनिया का सबसे बड़ा उष्णकटिबंधीय वर्षावन है।

- Ans
- ✗ 1. कांगो (Congo)
 - ✗ 2. प्रेयरी (Prairies)
 - ✓ 3. अमेज़न (Amazon)
 - ✗ 4. डैनट्री (Daintree)

Question Type : MCQ
Question ID : 264330133964
Option 1 ID : 264330524880
Option 2 ID : 264330524879
Option 3 ID : 264330524881
Option 4 ID : 264330524882
Status : Answered
Chosen Option : 3

Q.22 बनारस में हिंदू कॉलेज की स्थापना _____ में हुई थी।

- Ans
- 1. 1784
 - 2. 1786
 - 3. 1791
 - 4. 1785

Question Type : MCQ
Question ID : 264330138294
Option 1 ID : 264330541786
Option 2 ID : 264330541784
Option 3 ID : 264330541785
Option 4 ID : 264330541783
Status : Answered
Chosen Option : 1

Q.23 भागीरथी नदी की प्रमुख सहायक नदी कौन-सी है?

- Ans
- 1. पिंडर (Pindar)
 - 2. धौलीगंगा (Dhauliganga)
 - 3. बिशनगंगा (Bishenganga)
 - 4. भीलांगना (Bhilangna)

Question Type : MCQ
Question ID : 264330133966
Option 1 ID : 264330524888
Option 2 ID : 264330524889
Option 3 ID : 264330524890
Option 4 ID : 264330524887
Status : Answered
Chosen Option : 2

Q.24 _____ के खेल में, पाँच-पाँच खिलाड़ियों की दो टीमों गेंद को जमीन से 10 फीट ऊपर मौजूद हूप्स में डालकर स्कोर करने का प्रयास करती हैं।

- Ans
- 1. रग्बी
 - 2. बास्केटबॉल
 - 3. बैडमिंटन
 - 4. लॉन टेनिस

Question Type : MCQ
Question ID : 264330133978
Option 1 ID : 264330524938
Option 2 ID : 264330524936
Option 3 ID : 264330524935
Option 4 ID : 264330524937
Status : Answered
Chosen Option : 2

Q.25 मानव भूगोल के संदर्भ में, TFR का अर्थ _____ है।

- Ans
- 1. टोटल फ़ाइनेंस रेट (Total Finance Rate)
 - 2. टोटल फॉल रेट (Total Fall Rate)
 - 3. टोटल फ़र्टिलिटी रेट (Total Fertility Rate)
 - 4. टोटल फ़ीमेल रेश्यो (Total Female Ratio)

Question Type : MCQ
Question ID : 264330134680
Option 1 ID : 264330527675
Option 2 ID : 264330527678
Option 3 ID : 264330527677
Option 4 ID : 264330527676
Status : Answered
Chosen Option : 3

Section : English Language and Comprehension

Q.1 Find the part of the given sentence that has an error in it. If there is no error, choose 'No error'.

Tax dispute settlement might not work out in the desired scale.

- Ans
- 1. Tax dispute settlement
 - 2. might not work out in
 - 3. No error
 - 4. the desired scale.

Question Type : MCQ
Question ID : 264330134426
Option 1 ID : 264330526679
Option 2 ID : 264330526680
Option 3 ID : 264330526682
Option 4 ID : 264330526681
Status : Answered
Chosen Option : 1

Q.2 Select the most appropriate option to fill in the blank.

Participate in a mock interview to prepare for _____ on your feet and formulating answers under pressure.

- Ans
- 1. cursing
 - 2. building
 - 3. thinking
 - 4. blocking

Question Type : MCQ
Question ID : 264330134449
Option 1 ID : 264330526768
Option 2 ID : 264330526770
Option 3 ID : 264330526767
Option 4 ID : 264330526769
Status : Answered
Chosen Option : 2

Q.3 Choose the incorrectly spelt word.

- Ans 1. Insight
 2. Supply
 3. Optical
 4. Cares

Question Type : **MCQ**
Question ID : **264330134446**
Option 1 ID : **264330526758**
Option 2 ID : **264330526755**
Option 3 ID : **264330526756**
Option 4 ID : **264330526757**
Status : **Answered**
Chosen Option : **1**

Q.4 In the following question, out of the given four alternatives, select the alternative which best expresses the meaning of the Idiom/Phrase.
Rolling in cash

- Ans 1. Have a large quantity of money
 2. A business magnate
 3. To borrow a costly attire
 4. Buying things on interest

Question Type : **MCQ**
Question ID : **264330134444**
Option 1 ID : **264330526748**
Option 2 ID : **264330526750**
Option 3 ID : **264330526749**
Option 4 ID : **264330526747**
Status : **Answered**
Chosen Option : **1**

Q.5 A sentence has been given with a blank to be filled with an appropriate option. Choose the correct alternative.
Farms are increasingly turning to automation for _____ reasons.

- Ans 1. much
 2. most
 3. little
 4. many

Question Type : **MCQ**
Question ID : **264330134430**
Option 1 ID : **264330526698**
Option 2 ID : **264330526696**
Option 3 ID : **264330526695**
Option 4 ID : **264330526697**
Status : **Answered**
Chosen Option : **4**

Q.6 Select the most appropriate option to substitute the bracketed segment in the given sentence. If there is no need to substitute it, select 'no substitution required'.

(Beside myself, the only English people) there were Keith and Doreen.

- Ans**
- 1. Besides I, the only English speaking people
 - 2. Beside me, the only English people
 - 3. No substitution required
 - 4. Besides myself, the only English people

Question Type : **MCQ**

Question ID : **264330136060**

Option 1 ID : **264330533056**

Option 2 ID : **264330533055**

Option 3 ID : **264330533058**

Option 4 ID : **264330533057**

Status : **Answered**

Chosen Option : **1**

Q.7 Select the most appropriate synonym to substitute the bracketed word in the given sentence.

Confession had always rested on a clear distinction between mortal and (venial) sins.

- Ans**
- 1. Intolerable
 - 2. Major
 - 3. Pardonable
 - 4. Genial

Question Type : **MCQ**

Question ID : **264330136308**

Option 1 ID : **264330534008**

Option 2 ID : **264330534007**

Option 3 ID : **264330534009**

Option 4 ID : **264330534010**

Status : **Answered**

Chosen Option : **3**

Q.8 Improve the underlined part of the sentence. Choose 'No improvement' as an answer if the sentence is grammatically correct.

Cell phones keeps loved ones and those nearby them well connected.

- Ans**
- 1. keep loved ones and those near
 - 2. keeping loved and nearby
 - 3. kept love and near
 - 4. No improvement

Question Type : **MCQ**

Question ID : **264330134429**

Option 1 ID : **264330526693**

Option 2 ID : **264330526692**

Option 3 ID : **264330526691**

Option 4 ID : **264330526694**

Status : **Answered**

Chosen Option : **1**

Q.9 Improve the underlined part of the sentence. Choose 'No improvement' as an answer if the sentence is grammatically correct.
She blew out the candle and gone to sleepy.

- Ans
- 1. go to sleep
 - 2. No improvement
 - 3. went to sleeps
 - 4. went to sleep

Question Type : **MCQ**
Question ID : **264330134350**
Option 1 ID : **264330526389**
Option 2 ID : **264330526390**
Option 3 ID : **264330526387**
Option 4 ID : **264330526388**
Status : **Answered**
Chosen Option : **4**

Q.10 In the following question, out of the given four alternatives, select the alternative which best expresses the meaning of the Idiom/Phrase.
At all costs

- Ans
- 1. Whatever is needed to achieve something
 - 2. An expensive purchase
 - 3. Not to be trifled with
 - 4. To be master of

Question Type : **MCQ**
Question ID : **264330134445**
Option 1 ID : **264330526752**
Option 2 ID : **264330526751**
Option 3 ID : **264330526753**
Option 4 ID : **264330526754**
Status : **Answered**
Chosen Option : **1**

Q.11 Fill in the blank with the most appropriate option.

He had moved about two inches when several things happened in very _____ succession.

- Ans
- 1. brief
 - 2. absurd
 - 3. quick
 - 4. desperate

Question Type : **MCQ**
Question ID : **264330136263**
Option 1 ID : **264330533837**
Option 2 ID : **264330533838**
Option 3 ID : **264330533836**
Option 4 ID : **264330533835**
Status : **Answered**
Chosen Option : **1**

Q.12 Choose the word that can substitute the given group of words.
A unit to measure light

- Ans 1. Watt
 2. Lumen
 3. Horse-power
 4. Ampere

Question Type : **MCQ**
Question ID : **264330134439**
Option 1 ID : **264330526728**
Option 2 ID : **264330526729**
Option 3 ID : **264330526730**
Option 4 ID : **264330526727**
Status : **Answered**
Chosen Option : **1**

Q.13 Select the appropriate antonym for the underlined word.
The peach-tree is most productive when the roots are kept near the surface.

- Ans 1. potent
 2. lush
 3. futile
 4. fertile

Question Type : **MCQ**
Question ID : **264330134443**
Option 1 ID : **264330526745**
Option 2 ID : **264330526744**
Option 3 ID : **264330526746**
Option 4 ID : **264330526743**
Status : **Answered**
Chosen Option : **3**

Q.14 Select the appropriate synonym for the underlined word.
I didn't have time to give them proof.

- Ans 1. snap
 2. guess
 3. evidence
 4. charge

Question Type : **MCQ**
Question ID : **264330134440**
Option 1 ID : **264330526732**
Option 2 ID : **264330526731**
Option 3 ID : **264330526734**
Option 4 ID : **264330526733**
Status : **Answered**
Chosen Option : **3**

Q.15 Four sentences are given, out of which three have spelling errors. Choose the sentence with all correctly spelt words.

Ans ✗ 1. I don't know weather to eat it or rubb it on.

✗ 2. Goodbye untill later now, foks. Have a good night.

✓ 3.

Had I known what was coming, I could have prepared myself better.

✗ 4. She always says something humerous.

Question Type : **MCQ**

Question ID : **264330136262**

Option 1 ID : **264330533832**

Option 2 ID : **264330533834**

Option 3 ID : **264330533833**

Option 4 ID : **264330533831**

Status : **Answered**

Chosen Option : **3**

Q.16 Find the part of the given sentence that has an error in it. If there is no error, choose 'No error'.

The benefits of rebuilding healthy, fertile soil are clear.

Ans ✓ 1. No error

✗ 2. healthy, fertile soil

✗ 3. The benefits of rebuilding

✗ 4. are clear.

Question Type : **MCQ**

Question ID : **264330135204**

Option 1 ID : **264330529746**

Option 2 ID : **264330529744**

Option 3 ID : **264330529743**

Option 4 ID : **264330529745**

Status : **Answered**

Chosen Option : **2**

Q.17 Select the most appropriate antonym of the given word.

Discreet

Ans ✓ 1. Open

✗ 2. Release

✗ 3. Lose

✗ 4. Zenith

Question Type : **MCQ**

Question ID : **264330136657**

Option 1 ID : **264330535348**

Option 2 ID : **264330535350**

Option 3 ID : **264330535347**

Option 4 ID : **264330535349**

Status : **Answered**

Chosen Option : **4**

Q.18 Choose the word that can substitute the given group of words.
Destruction of a fetus

- Ans
- 1. Ellipse
 - 2. Abhor
 - 3. Fratricide
 - 4. Feticide

Question Type : **MCQ**
Question ID : **264330134438**
Option 1 ID : **264330526726**
Option 2 ID : **264330526723**
Option 3 ID : **264330526725**
Option 4 ID : **264330526724**
Status : **Answered**
Chosen Option : **4**

Q.19 Identify the segment that contains a grammatical error. If there is no error, select 'No error'.
Rapid climate warming in / the tundra biome have been linked / to increasing shrub dominance.

- Ans
- 1. Rapid climate warming in
 - 2. No error
 - 3. the tundra biome have been linked
 - 4. to increasing shrub dominance.

Question Type : **MCQ**
Question ID : **264330136057**
Option 1 ID : **264330533043**
Option 2 ID : **264330533046**
Option 3 ID : **264330533044**
Option 4 ID : **264330533045**
Status : **Answered**
Chosen Option : **4**

Q.20 Fill in the blank with the most appropriate option.

Sam knew who those people were; the figure in front was _____ his cousin.

- Ans
- 1. at mistake
 - 2. unmistakably
 - 3. mistaken of
 - 4. by mistake

Question Type : **MCQ**
Question ID : **264330136391**
Option 1 ID : **264330534331**
Option 2 ID : **264330534333**
Option 3 ID : **264330534332**
Option 4 ID : **264330534334**
Status : **Answered**
Chosen Option : **3**

Comprehension:

In the following passage some words have been deleted. Fill in the blanks with the help of the alternatives given. Select the most appropriate option for each number.

By the (1) _____ we reach puberty, the world has reached us and (2) _____ us to a greater extent than we realize. (3) _____ family, friends, school, and society in general (4) _____-by word and example-how to be. But people (5) _____ leaders at that moment when they decide for themselves how to be.

SubQuestion No : 21

Q.21 Select the most appropriate option to fill in blank number 1.

- Ans
- 1. age
 - 2. time
 - 3. era
 - 4. moment

Question Type : **MCQ**
Question ID : **264330136648**
Option 1 ID : **264330535313**
Option 2 ID : **264330535312**
Option 3 ID : **264330535311**
Option 4 ID : **264330535314**
Status : **Answered**
Chosen Option : **1**

Comprehension:

In the following passage some words have been deleted. Fill in the blanks with the help of the alternatives given. Select the most appropriate option for each number.

By the (1) _____ we reach puberty, the world has reached us and (2) _____ us to a greater extent than we realize. (3) _____ family, friends, school, and society in general (4) _____-by word and example-how to be. But people (5) _____ leaders at that moment when they decide for themselves how to be.

SubQuestion No : 22

Q.22 Select the most appropriate option to fill in blank number 2.

- Ans
- 1. formats
 - 2. contours
 - 3. shapes
 - 4. shaped

Question Type : **MCQ**
Question ID : **264330136649**
Option 1 ID : **264330535317**
Option 2 ID : **264330535316**
Option 3 ID : **264330535315**
Option 4 ID : **264330535318**
Status : **Answered**
Chosen Option : **3**

Comprehension:

In the following passage some words have been deleted. Fill in the blanks with the help of the alternatives given. Select the most appropriate option for each number.

By the (1) _____ we reach puberty, the world has reached us and (2) _____ us to a greater extent than we realize. (3) _____ family, friends, school, and society in general (4) _____-by word and example-how to be. But people (5) _____ leaders at that moment when they decide for themselves how to be.

SubQuestion No : 23

Q.23 Select the most appropriate option to fill in blank number 3.

- Ans**
- 1. Their
 - 2. Our
 - 3. Her
 - 4. There

Question Type : **MCQ**

Question ID : **264330136650**

Option 1 ID : **264330535321**

Option 2 ID : **264330535319**

Option 3 ID : **264330535320**

Option 4 ID : **264330535322**

Status : **Answered**

Chosen Option : **2**

Comprehension:

In the following passage some words have been deleted. Fill in the blanks with the help of the alternatives given. Select the most appropriate option for each number.

By the (1) _____ we reach puberty, the world has reached us and (2) _____ us to a greater extent than we realize. (3) _____ family, friends, school, and society in general (4) _____-by word and example-how to be. But people (5) _____ leaders at that moment when they decide for themselves how to be.

SubQuestion No : 24

Q.24 Select the most appropriate option to fill in blank number 4.

- Ans**
- 1. have tell us
 - 2. has told us
 - 3. have told us
 - 4. have been told us

Question Type : **MCQ**

Question ID : **264330136651**

Option 1 ID : **264330535326**

Option 2 ID : **264330535323**

Option 3 ID : **264330535325**

Option 4 ID : **264330535324**

Status : **Answered**

Chosen Option : **1**

Comprehension:

In the following passage some words have been deleted. Fill in the blanks with the help of the alternatives given. Select the most appropriate option for each number.

By the (1) _____ we reach puberty, the world has reached us and (2) _____ us to a greater extent than we realize. (3) _____ family, friends, school, and society in general (4) _____-by word and example-how to be. But people (5) _____ leaders at that moment when they decide for themselves how to be.

SubQuestion No : 25

Q.25 Select the most appropriate option to fill in blank number 5.

- Ans**
- 1. begin to become
 - 2. onset to became
 - 3. start to became
 - 4. began to become

Question Type : **MCQ**

Question ID : **264330136652**

Option 1 ID : **264330535328**

Option 2 ID : **264330535330**

Option 3 ID : **264330535329**

Option 4 ID : **264330535327**

Status : **Answered**

Chosen Option : **1**

Multi Tasking Non Technical Staff and Havaladar CBIC and CBN Examination 2022

Roll Number	KD Job Updates
Candidate Name	KD Job Updates
Venue Name	iON Digital Zone iDZ Karsua
Exam Date	18/05/2023
Exam Time	12:00 PM - 2:00 PM
Subject	MTS Non Tech Havaladar CBIC and CBN Examination 2022

Section : Numerical and Mathematical Ability

Q.1 6, 18, 20 और 32 से विभाज्य सबसे छोटी संख्या कौन-सी है?

- Ans
- 1. 360
 - 2. 108
 - 3. 1440
 - 4. 640

Question Type : MCQ
Question ID : 264330140996
Option 1 ID : 264330552332
Option 2 ID : 264330552331
Option 3 ID : 264330552334
Option 4 ID : 264330552333
Status : Answered
Chosen Option : 3

Q.2 12 cm त्रिज्या और 14 cm तिर्यक ऊँचाई वाले शंकु का वक्र पृष्ठीय क्षेत्रफल ज्ञात कीजिए।
($\pi = 3.14$ का प्रयोग करें)

- Ans
- 1. 527.52 cm²
 - 2. 5436.6 cm²
 - 3. 4325.5 cm²
 - 4. 501.54 cm²

Question Type : MCQ
Question ID : 264330135107
Option 1 ID : 264330529364
Option 2 ID : 264330529366
Option 3 ID : 264330529365
Option 4 ID : 264330529363
Status : Answered
Chosen Option : 1

Q.3 जब एक दुकानदार ने Rs. 24500 प्रति एसी (AC) के अंकित मूल्य वाले 40 एसी का ऑर्डर दिया, तो एसी कंपनी के वितरक ने 5% का बढ़ा दिया। चालान (invoice) का कुल मूल्य कितना होगा?

- Ans
- 1. Rs. 890000
 - 2. Rs. 931000
 - 3. Rs. 980000
 - 4. Rs. 964000

Question Type : **MCQ**
Question ID : **264330138733**
Option 1 ID : **264330543540**
Option 2 ID : **264330543541**
Option 3 ID : **264330543539**
Option 4 ID : **264330543542**
Status : **Answered**
Chosen Option : **2**

Q.4 Rs. 980 के मूलधन पर 12 प्रतिशत वार्षिक दर से 4 वर्षों के लिए साधारण ब्याज कितना होगा?

- Ans
- 1. Rs. 460.4
 - 2. Rs. 470.4
 - 3. Rs. 380.4
 - 4. Rs. 430.4

Question Type : **MCQ**
Question ID : **264330137675**
Option 1 ID : **264330539308**
Option 2 ID : **264330539310**
Option 3 ID : **264330539307**
Option 4 ID : **264330539309**
Status : **Answered**
Chosen Option : **2**

Q.5 एक विक्रेता अपने क्रय मूल्य पर 15% लाभ की अपेक्षा करता है। यदि एक माह में उसकी बिक्री Rs.138000 थी, तो उसका लाभ कितना था?

- Ans
- 1. Rs. 18000
 - 2. Rs. 15500
 - 3. Rs. 13800
 - 4. Rs. 12000

Question Type : **MCQ**
Question ID : **264330141023**
Option 1 ID : **264330552441**
Option 2 ID : **264330552442**
Option 3 ID : **264330552440**
Option 4 ID : **264330552439**
Status : **Answered**
Chosen Option : **1**

Q.6 एक बेलन के आधार की परिधि 28π cm है। यदि बेलन की ऊँचाई 17 cm है, तो बेलन का वक्र पृष्ठीय क्षेत्रफल कितना होगा?

- Ans
- 1. 524π cm²
 - 2. 436π cm²
 - 3. 372π cm²
 - 4. 476π cm²

Question Type : MCQ

Question ID : 264330137188

Option 1 ID : 264330537398

Option 2 ID : 264330537396

Option 3 ID : 264330537395

Option 4 ID : 264330537397

Status : Answered

Chosen Option : 4

Q.7 किसी संख्या के 40 प्रतिशत का 60 प्रतिशत 150 के बराबर है। उस संख्या का 20 प्रतिशत क्या है?

- Ans
- 1. 125
 - 2. 200
 - 3. 145
 - 4. 175

Question Type : MCQ

Question ID : 264330137670

Option 1 ID : 264330539288

Option 2 ID : 264330539287

Option 3 ID : 264330539289

Option 4 ID : 264330539290

Status : Answered

Chosen Option : 1

Q.8 180 km/hr की चाल से चल रही एक रेलगाड़ी, 108 km/hr की चाल से चल रही एक कार से 5 सेकंड में आगे निकल जाती है। रेलगाड़ी की लंबाई कितनी है?

- Ans
- 1. 100 मीटर
 - 2. 120 मीटर
 - 3. 150 मीटर
 - 4. 200 मीटर

Question Type : MCQ

Question ID : 264330138738

Option 1 ID : 264330543562

Option 2 ID : 264330543559

Option 3 ID : 264330543561

Option 4 ID : 264330543560

Status : Answered

Chosen Option : 1

Q.9 नीचे दी गई तालिका में वर्ष 2013 से 2016 में एक शोरूम द्वारा बेचे गए एसी (AC) की संख्या को दर्शाया गया है। वर्ष 2014 में शोरूम B द्वारा बेचे गए एसी, वर्ष 2016 में शोरूम D द्वारा बेचे गए एसी से कितने प्रतिशत कम हैं?

Showroom	Years			
	2013	2014	2015	2016
A	100	54	98	72
B	180	92	105	88
C	120	122	100	140
D	60	152	80	100

- Ans
- 1. 12%
 - 2. 8%
 - 3. 10%
 - 4. 14%

Question Type : MCQ
Question ID : 264330133596
Option 1 ID : 264330523409
Option 2 ID : 264330523407
Option 3 ID : 264330523408
Option 4 ID : 264330523410
Status : Answered
Chosen Option : 2

Q.10 एक कॉलेज में, लड़के और लड़कियों की संख्या का अनुपात 3:8 है। यदि लड़को की संख्या 180 है, तो कॉलेज में कितनी लड़कियाँ हैं?

- Ans
- 1. 420
 - 2. 480
 - 3. 380
 - 4. 660

Question Type : MCQ
Question ID : 264330138735
Option 1 ID : 264330543550
Option 2 ID : 264330543548
Option 3 ID : 264330543549
Option 4 ID : 264330543547
Status : Answered
Chosen Option : 2

Q.11 $P = (8 + 8) \times (8 \div 8) \times (8 \times 8)$

P का मान ज्ञात कीजिए।

- Ans
- 1. 1024
 - 2. 512
 - 3. 1440
 - 4. 1120

Question Type : MCQ
Question ID : 264330138724
Option 1 ID : 264330543504
Option 2 ID : 264330543503
Option 3 ID : 264330543505
Option 4 ID : 264330543506
Status : Answered
Chosen Option : 1

Q.12 दूध और पानी के 255 लीटर मिश्रण में दूध और पानी का अनुपात 4:1 है। दूध और पानी का अनुपात 4:3 बनाने के लिए पानी की आवश्यक मात्रा ज्ञात कीजिए।

- Ans
- 1. 94 लीटर
 - 2. 51 लीटर
 - 3. 55 लीटर
 - 4. 102 लीटर

Question Type : MCQ
Question ID : 264330135134
Option 1 ID : 264330529472
Option 2 ID : 264330529471
Option 3 ID : 264330529474
Option 4 ID : 264330529473
Status : Answered
Chosen Option : 4

Q.13 $3 \times \left[\left\{ (11 - 3) \div \left(\frac{1}{2} \text{ of } 8 \right) + 15 \div 3 \right\} \right]$ का मान है:

- Ans
- 1. 21
 - 2. 19
 - 3. 15
 - 4. 30

Question Type : MCQ
Question ID : 264330133582
Option 1 ID : 264330523352
Option 2 ID : 264330523354
Option 3 ID : 264330523353
Option 4 ID : 264330523351
Status : Answered
Chosen Option : 1

Q.14 63 पुरुष एक कार्य को 30 दिनों में पूरा कर सकते हैं। उसी कार्य को 21 पुरुष कितने दिनों में पूरा करेंगे?

- Ans
- 1. 70 दिनों में
 - 2. 90 दिनों में
 - 3. 88 दिनों में
 - 4. 85 दिनों में

Question Type : MCQ
Question ID : 264330138427
Option 1 ID : 264330542315
Option 2 ID : 264330542318
Option 3 ID : 264330542316
Option 4 ID : 264330542317
Status : Answered
Chosen Option : 2

Q.15 A किसी कार्य को 6 दिनों में कर सकता है, जिसे B अकेले 8 दिनों में कर सकता है। दोनों मिलकर इसे कितने दिनों में कर सकते हैं?

Ans

✗ 1. $\frac{25}{7}$ दिन

✗ 2. $\frac{22}{3}$ दिन

✗ 3. $\frac{27}{4}$ दिन

✓ 4. $\frac{24}{7}$ दिन

Question Type : MCQ

Question ID : 264330135102

Option 1 ID : 264330529344

Option 2 ID : 264330529345

Option 3 ID : 264330529346

Option 4 ID : 264330529343

Status : Answered

Chosen Option : 4

Q.16 एक डिब्बे में 45 बल्ब हैं, जिनमें से 12 बल्ब खराब पाए गए। डिब्बे में अच्छे बल्बों और कुल बल्बों का अनुपात कितना है?

Ans

✗ 1. 8:13

✗ 2. 5:8

✓ 3. 11:15

✗ 4. 7:11

Question Type : MCQ

Question ID : 264330138734

Option 1 ID : 264330543545

Option 2 ID : 264330543546

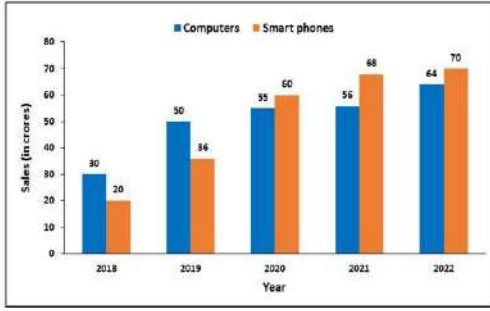
Option 3 ID : 264330543543

Option 4 ID : 264330543544

Status : Answered

Chosen Option : 3

Q.17 निम्नलिखित दंड आलेख में वर्ष 2018 से 2022 के दौरान एक देश में कंप्यूटर और स्मार्टफोन की बिक्री (करोड़ में) को दर्शाया गया है। इन वर्षों के दौरान कंप्यूटर की औसत बिक्री और स्मार्टफोन की औसत बिक्री के बीच कितना अंतर है?



Sales (in crores) - बिक्री (करोड़ में), Computers - कंप्यूटर, Smart phones - स्मार्टफोन, Year - वर्ष

- Ans
- 1. 0.5 करोड़
 - 2. 1 करोड़
 - 3. 0.8 करोड़
 - 4. 0.2 करोड़

Question Type : MCQ

Question ID : 264330138742

Option 1 ID : 264330543576

Option 2 ID : 264330543577

Option 3 ID : 264330543578

Option 4 ID : 264330543575

Status : Not Answered

Chosen Option : --

Q.18 एक समलंब की समानांतर भुजाएँ 14 cm और 18 cm हैं तथा समानांतर भुजाओं के बीच की दूरी 15 cm है। समलंब का क्षेत्रफल ज्ञात कीजिए।

- Ans
- 1. 240 cm^2
 - 2. 300 cm^2
 - 3. 310 cm^2
 - 4. 220 cm^2

Question Type : MCQ

Question ID : 264330138431

Option 1 ID : 264330542332

Option 2 ID : 264330542334

Option 3 ID : 264330542333

Option 4 ID : 264330542331

Status : Answered

Chosen Option : 1

Q.19 एक वस्तु को Rs. 41275 में बेचने पर सुमन को 35% की हानि हुई। वस्तु का क्रय मूल्य क्या था?

- Ans
- 1. Rs. 48675
 - 2. Rs. 54020
 - 3. Rs. 63500
 - 4. Rs. 45910

Question Type : MCQ

Question ID : 264330138732

Option 1 ID : 264330543538

Option 2 ID : 264330543537

Option 3 ID : 264330543535

Option 4 ID : 264330543536

Status : Answered

Chosen Option : 3

Q.20 Rs. 2400 की धनराशि 10 प्रतिशत वार्षिक दर पर ऋण पर दी जाती है। निम्नलिखित में से कौन-सा/से कथन सही है/हैं?

- I. 3 वर्षों के लिए चक्रवृद्धि ब्याज (वार्षिक रूप से संयोजित) Rs.794.4 है।
- II. 3 वर्षों के बाद साधारण ब्याज और चक्रवृद्धि ब्याज (वार्षिक रूप से संयोजित) के बीच का अंतर Rs.75.8 है।

- Ans
- 1. केवल कथन I सही है
 - 2. कोई भी कथन सही नहीं है
 - 3. कथन I और II दोनों सही हैं
 - 4. केवल कथन II सही है

Question Type : MCQ

Question ID : 264330137676

Option 1 ID : 264330539311

Option 2 ID : 264330539314

Option 3 ID : 264330539313

Option 4 ID : 264330539312

Status : Not Answered

Chosen Option : --

Section : Reasoning Ability and Problem Solving

Q.1 निम्नलिखित प्रश्न में, दी गई श्रृंखला में लुप्त संख्या को चुनिए ।

144, 140, 132, 116, 84, ?

- Ans
- 1. 29
 - 2. 20
 - 3. 25
 - 4. 30

Question Type : MCQ

Question ID : 264330138595

Option 1 ID : 264330542989

Option 2 ID : 264330542987

Option 3 ID : 264330542988

Option 4 ID : 264330542990

Status : Answered

Chosen Option : 2

Q.2 एक निश्चित कूट भाषा में, 'MOTION' को 'NNUHPM' लिखा जाता है। उस कूट भाषा में 'NORMAL' को कैसे लिखा जाएगा?

- Ans
- 1. ONTLCK
 - 2. ONSLBK
 - 3. ONSLBL
 - 4. ONSLCK

Question Type : MCQ

Question ID : 264330137090

Option 1 ID : 264330537006

Option 2 ID : 264330537003

Option 3 ID : 264330537005

Option 4 ID : 264330537004

Status : Answered

Chosen Option : 2

Q.3 किन दो चिन्हों को आपस में बदलने पर, दिए गए समीकरण का मान '1' होगा?

$$3 \div 1 + 6 \times 2 - 5$$

- Ans
- 1. \div और $+$
 - 2. \div और \times
 - 3. \times और $-$
 - 4. $+$ और $-$

Question Type : MCQ

Question ID : 264330138598

Option 1 ID : 264330543000

Option 2 ID : 264330543002

Option 3 ID : 264330543001

Option 4 ID : 264330542999

Status : Answered

Chosen Option : 2

Q.4 कौन-सी उत्तर आकृति प्रश्न आकृति में दिए गए पैटर्न को पूरा करेगी?



Ans

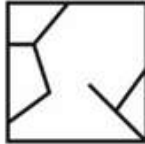
✗ 1.



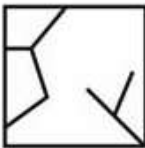
✗ 2.



✓ 3.



✗ 4.



Question Type : MCQ

Question ID : 264330138602

Option 1 ID : 264330543015

Option 2 ID : 264330543017

Option 3 ID : 264330543016

Option 4 ID : 264330543018

Status : Answered

Chosen Option : 3

Q.5 छः लड़कियाँ प्रिया, मुस्कान, रानी, सिरजाना, टीना और लक्ष्मी एक पंक्ति में दक्षिण की ओर मुख करके बैठी हैं (परंतु जरूरी नहीं वे कि इसी क्रम में बैठी हों)। मुस्कान, टीना के दाईं ओर से दूसरे स्थान पर है। सिरजाना, टीना के बाईं ओर से दूसरे स्थान पर है। लक्ष्मी, रानी के बाईं ओर से दूसरे स्थान पर है। रानी, मुस्कान के ठीक दाईं ओर है। प्रिया के ठीक दाईं ओर कौन बैठा है?

- Ans**
- 1. मुस्कान
 - 2. लक्ष्मी
 - 3. सिरजाना
 - 4. टीना

Question Type : **MCQ**
Question ID : **264330138590**
Option 1 ID : **264330542967**
Option 2 ID : **264330542968**
Option 3 ID : **264330542970**
Option 4 ID : **264330542969**
Status : **Answered**
Chosen Option : **3**

Q.6 दी गई श्रृंखला में निम्नलिखित में से कौन-सी संख्या प्रश्न चिन्ह (?) के स्थान पर आएगी?
85, 105, 126, 148, 171, 195, ?

- Ans**
- 1. 420
 - 2. 280
 - 3. 220
 - 4. 530

Question Type : **MCQ**
Question ID : **264330137594**
Option 1 ID : **264330538983**
Option 2 ID : **264330538984**
Option 3 ID : **264330538985**
Option 4 ID : **264330538986**
Status : **Answered**
Chosen Option : **3**

Q.7 निम्नलिखित पक्ष में कुछ कथन दिए गए हैं और उन कथनों के आधार पर कुछ निष्कर्ष दिए गए हैं। आपको मानना है कि दिए गए कथन सत्य हैं चाहे वे समान्यतः ज्ञात तथ्यों से अलग प्रतीत होते हों। सभी निष्कर्षों को पढ़िए और फिर निश्चय कीजिए कि दिए गए निष्कर्षों में से कौन-सा निष्कर्ष तार्किक रूप से दिए गए कथनों के अनुसार है।

कथन:

- I. सभी P, M हैं।
- II. कोई भी P, R नहीं है।

निष्कर्ष:

- I. कुछ R, P नहीं हैं।
- II. कुछ M, R नहीं हैं।

Ans

- 1. केवल निष्कर्ष II कथनों के अनुसार है
- 2. दोनों निष्कर्ष I और II कथनों के अनुसार हैं
- 3. कोई भी निष्कर्ष कथनों के अनुसार नहीं है
- 4. केवल निष्कर्ष I कथनों के अनुसार है

Question Type : **MCQ**

Question ID : **264330138592**

Option 1 ID : **264330542976**

Option 2 ID : **264330542977**

Option 3 ID : **264330542978**

Option 4 ID : **264330542975**

Status : **Answered**

Chosen Option : **3**

Q.8 एक निश्चित कूट भाषा में, 'FANS' को 'JERW' लिखा जाता है। उस कूट भाषा में 'HERO' को कैसे लिखा जाएगा?

Ans

- 1. LIWS
- 2. LJVS
- 3. LIVT
- 4. LIVS

Question Type : **MCQ**

Question ID : **264330138523**

Option 1 ID : **264330542700**

Option 2 ID : **264330542699**

Option 3 ID : **264330542701**

Option 4 ID : **264330542702**

Status : **Answered**

Chosen Option : **4**

Q.9 उस विकल्प को चुनिए जो तीसरी संख्या से ठीक उसी प्रकार संबंधित है जिस प्रकार दूसरी संख्या पहली संख्या से संबंधित है।

12 : 132 :: 16 : ?

- Ans**
- 1. 135
 - 2. 215
 - 3. 167
 - 4. 176

Question Type : **MCQ**

Question ID : **264330137596**

Option 1 ID : **264330538991**

Option 2 ID : **264330538993**

Option 3 ID : **264330538994**

Option 4 ID : **264330538992**

Status : **Answered**

Chosen Option : **4**

Q.10 उस विकल्प को चुनिए जो पाँचवें पद से ठीक उसी प्रकार संबंधित है जिस प्रकार दूसरा पद पहले पद से संबंधित है और चौथा पद तीसरे पद से संबंधित है।

KIT : PNY :: PFC : UKH :: ANG : ?

- Ans**
- 1. ESL
 - 2. FSL
 - 3. ESK
 - 4. FSK

Question Type : **MCQ**

Question ID : **264330138584**

Option 1 ID : **264330542945**

Option 2 ID : **264330542946**

Option 3 ID : **264330542943**

Option 4 ID : **264330542944**

Status : **Answered**

Chosen Option : **2**

Q.11 उस विकल्प को चुनिए जो पाँचवें पद से ठीक उसी प्रकार संबंधित है जिस प्रकार दूसरा पद पहले पद से संबंधित है और चौथा पद तीसरे पद से संबंधित है।

TBA : SZX :: KRB : JPY :: GOT : ?

- Ans**
- 1. FNR
 - 2. FMR
 - 3. FNQ
 - 4. FMQ

Question Type : **MCQ**

Question ID : **264330138585**

Option 1 ID : **264330542948**

Option 2 ID : **264330542950**

Option 3 ID : **264330542949**

Option 4 ID : **264330542947**

Status : **Answered**

Chosen Option : **4**

Q.12 निम्नलिखित पक्ष में कुछ कथन दिए गए हैं और उन कथनों के आधार पर कुछ निष्कर्ष दिए गए हैं। आपको मानना है कि दिए गए कथन सत्य हैं चाहे वे समान्यतः ज्ञात तथ्यों से अलग प्रतीत होते हों। सभी निष्कर्षों को पढ़िए और फिर निश्चय कीजिए कि दिए गए निष्कर्षों में से कौन-सा निष्कर्ष तार्किक रूप से दिए गए कथनों के अनुसार है।

कथन:

I. कुछ L, G हैं।

II. सभी M, L हैं।

निष्कर्ष:

I. सभी L, M हैं।

II. कुछ G, M नहीं हैं।

III. कोई M, G नहीं है।

- Ans**
- 1. दोनों निष्कर्ष II और III कथनों के अनुसार हैं
 - 2. दोनों निष्कर्ष I और II कथनों के अनुसार हैं
 - 3. दोनों निष्कर्ष I और III कथनों के अनुसार हैं
 - 4. कोई भी निष्कर्ष कथनों के अनुसार नहीं है

Question Type : **MCQ**

Question ID : **264330138593**

Option 1 ID : **264330542981**

Option 2 ID : **264330542982**

Option 3 ID : **264330542980**

Option 4 ID : **264330542979**

Status : **Answered**

Chosen Option : **4**

Q.13 एक श्रृंखला दी गई है जिसमें एक पद लुप्त है। दिए गए विकल्पों में से उस सही विकल्प को चुनिए जो श्रृंखला को पूरा करेगा।

MCHQ, LYGM, KUFL?, IMDA

- Ans**
- 1. JQEE
 - 2. JRFF
 - 3. JREF
 - 4. JQFE

Question Type : **MCQ**

Question ID : **264330138582**

Option 1 ID : **264330542937**

Option 2 ID : **264330542938**

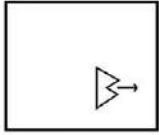
Option 3 ID : **264330542935**

Option 4 ID : **264330542936**

Status : **Answered**

Chosen Option : **1**

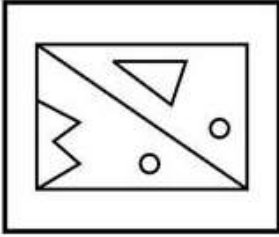
Q.14 उस विकल्प आकृति को चुनिए जिसमें दी गई आकृति (X) उसके भाग के रूप में निहित है। (घूर्णन की अनुमति नहीं है)।



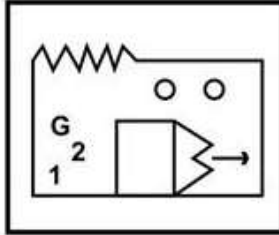
X

Ans

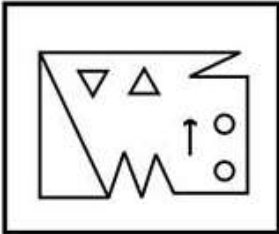
✗ 1.



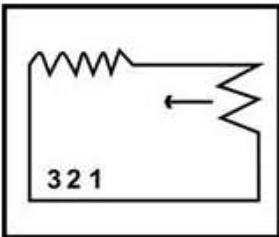
✓ 2.



✗ 3.



✗ 4.



Question Type : MCQ

Question ID : 264330133337

Option 1 ID : 264330522386

Option 2 ID : 264330522383

Option 3 ID : 264330522385

Option 4 ID : 264330522384

Status : Answered

Chosen Option : 2

Q.15 एक निश्चित कूट भाषा में, 'HORN' को '8695' लिखा जाता है और 'LURP' को '3397' लिखा जाता है। उस भाषा में 'BLUE' को कैसे लिखा जाएगा?

- Ans**
- 1. 2553
 - 2. 5223
 - 3. 2335
 - 4. 2365

Question Type : **MCQ**

Question ID : **264330135027**

Option 1 ID : **264330529043**

Option 2 ID : **264330529045**

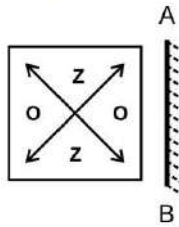
Option 3 ID : **264330529046**

Option 4 ID : **264330529044**

Status : **Answered**

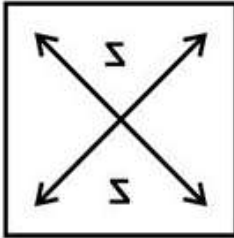
Chosen Option : **3**

Q.16 दी गई आकृति के उस सही दर्पण प्रतिबिंब को चुनिए, जो नीचे दर्शाए गए अनुसार दर्पण को AB पर रखने पर बनेगा।



Ans

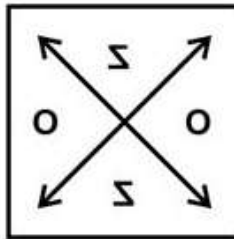
✗ 1.



✗ 2.



✓ 3.



✗ 4.



Question Type : MCQ

Question ID : 264330133338

Option 1 ID : 264330522390

Option 2 ID : 264330522387

Option 3 ID : 264330522389

Option 4 ID : 264330522388

Status : Answered

Chosen Option : 3

Q.17 यदि A का अर्थ 'जोड़', B का अर्थ 'गुणा', C का अर्थ 'घटाव' और D का अर्थ 'भाग' हो, तो निम्नलिखित समीकरण का मान क्या होगा?
7 C 8 A (6 D 3) = ?

- Ans 1. 1
 2. 5
 3. 3
 4. 7

Question Type : MCQ
Question ID : 264330137599
Option 1 ID : 264330539004
Option 2 ID : 264330539003
Option 3 ID : 264330539006
Option 4 ID : 264330539005
Status : Answered
Chosen Option : 1

Q.18 पाँच कारों C1, C2, C3, C4 और C5 की कीमतों की तुलना की जाती है। C1 की कीमत सबसे कम है। कोई भी दो कारों की कीमत समान नहीं है। C3 की कीमत C5, C2 और C4 से कम है। न तो C5 और न ही C2 की कीमत सबसे अधिक है। C5 की कीमत C2 से कम है। कितनी कारों की कीमत C4 की कीमत से अधिक है?

- Ans 1. 4
 2. 0
 3. 1
 4. 2

Question Type : MCQ
Question ID : 264330138591
Option 1 ID : 264330542974
Option 2 ID : 264330542973
Option 3 ID : 264330542971
Option 4 ID : 264330542972
Status : Answered
Chosen Option : 2

Q.19 एक निश्चित कूट भाषा में, 'ROYAL' को 'HWUKN' लिखा जाता है। उस कूट भाषा में 'SEEMS' को कैसे लिखा जाएगा?

- Ans 1. OIBBO
 2. OJAAO
 3. OIAAP
 4. OIAAO

Question Type : MCQ
Question ID : 264330138483
Option 1 ID : 264330542542
Option 2 ID : 264330542540
Option 3 ID : 264330542539
Option 4 ID : 264330542541
Status : Not Answered
Chosen Option : --

Q.20 उस विकल्प को चुनिए जो तीसरे शब्द से ठीक उसी प्रकार संबंधित है जिस प्रकार दूसरा शब्द पहले शब्द से संबंधित है।

क्षेत्राधिकार : अधिकार :: असमंजस : ?

- Ans
- 1. प्रतिभूति
 - 2. दुविधा
 - 3. निर्णायक
 - 4. निश्चित

Question Type : MCQ
Question ID : 264330135021
Option 1 ID : 264330529020
Option 2 ID : 264330529019
Option 3 ID : 264330529022
Option 4 ID : 264330529021
Status : Answered
Chosen Option : 2

Section : General Awareness

Q.1 दिल्ली में लाल किला किसने बनवाया था?

- Ans
- 1. शाहजहाँ
 - 2. जहाँगीर
 - 3. बाबर
 - 4. हुमायूँ

Question Type : MCQ
Question ID : 264330137775
Option 1 ID : 264330539708
Option 2 ID : 264330539710
Option 3 ID : 264330539709
Option 4 ID : 264330539707
Status : Answered
Chosen Option : 1

Q.2 समस्थानिकों की विशेषता क्या है?

- Ans
- 1. समान न्यूट्रॉन संख्या और समान प्रोटॉन संख्या
 - 2. समान न्यूट्रॉन संख्या और अलग-अलग प्रोटॉन संख्या
 - 3. समान परमाणु संख्या और अलग-अलग द्रव्यमान संख्या
 - 4. समान परमाणु संख्या और समान द्रव्यमान संख्या

Question Type : MCQ
Question ID : 264330137766
Option 1 ID : 264330539674
Option 2 ID : 264330539673
Option 3 ID : 264330539672
Option 4 ID : 264330539671
Status : Answered
Chosen Option : 3

Q.3 सरोगेसी (विनियमन) विधेयक, 2016 क्या प्रतिबंधित करता है?

Ans 1.

सरोगेट (किराए की कोख) के रूप में 23 से 50 वर्ष की महिलाएँ

2. व्यावसायिक (कमर्शियल) सरोगेसी

3. सरोगेट के रूप में विवाहित महिलाएँ

4. सरोगेट के रूप में तलाकशुदा महिलाएँ

Question Type : MCQ

Question ID : 264330137762

Option 1 ID : 264330539655

Option 2 ID : 264330539656

Option 3 ID : 264330539657

Option 4 ID : 264330539658

Status : Answered

Chosen Option : 2

Q.4 निम्नलिखित में से किसे मणिपुर के महाराजा द्वारा प्रदान की गई 'नृत्याचार्य (Nriyacharya)' की प्रतिष्ठित उपाधि से सम्मानित किया गया था?

Ans 1. रुक्मिणी देवी

2. गुरु केलुचरण महापात्र

3. गुरु बिपिन सिंह

4. उदय शंकर

Question Type : MCQ

Question ID : 264330138253

Option 1 ID : 264330541621

Option 2 ID : 264330541619

Option 3 ID : 264330541620

Option 4 ID : 264330541622

Status : Not Answered

Chosen Option : --

Q.5 धनगर नृत्य _____ के धनगर समुदाय से संबंधित है।

Ans 1. तमिलनाडु

2. गुजरात

3. आंध्रप्रदेश

4. गोवा

Question Type : MCQ

Question ID : 264330138649

Option 1 ID : 264330543203

Option 2 ID : 264330543205

Option 3 ID : 264330543204

Option 4 ID : 264330543206

Status : Answered

Chosen Option : 2

Q.6 निम्नलिखित में से कौन-सा महासागर विश्व में सबसे छोटा है?

- Ans
- ✓ 1. आर्कटिक महासागर
 - ✗ 2. हिंद महासागर
 - ✗ 3. प्रशांत महासागर
 - ✗ 4. अटलांटिक महासागर

Question Type : MCQ
Question ID : 264330137769
Option 1 ID : 264330539683
Option 2 ID : 264330539686
Option 3 ID : 264330539684
Option 4 ID : 264330539685
Status : Answered
Chosen Option : 4

Q.7 भारतीय संविधान का निम्नलिखित में से कौन-सा अनुच्छेद "ग्राम पंचायतों के संगठन" से संबंधित है?

- Ans
- ✗ 1. अनुच्छेद 41
 - ✗ 2. अनुच्छेद 42
 - ✗ 3. अनुच्छेद 43
 - ✓ 4. अनुच्छेद 40

Question Type : MCQ
Question ID : 264330138661
Option 1 ID : 264330543252
Option 2 ID : 264330543253
Option 3 ID : 264330543254
Option 4 ID : 264330543251
Status : Answered
Chosen Option : 4

Q.8 पानीपत का तीसरा युद्ध _____ के बीच लड़ा गया था।

- Ans
- ✗ 1. मराठा और मुगल
 - ✗ 2. अफगान और मुगल
 - ✓ 3. मराठा और अफगान
 - ✗ 4. अफगान और तुर्क

Question Type : MCQ
Question ID : 264330137776
Option 1 ID : 264330539712
Option 2 ID : 264330539713
Option 3 ID : 264330539711
Option 4 ID : 264330539714
Status : Answered
Chosen Option : 3

Q.9 प्रसिद्ध एथलीट ज्वाला गुप्ता किस खेल से संबंधित हैं?

- Ans
- ✓ 1. बैडमिंटन (Badminton)
 - ✗ 2. स्क्वाश (Squash)
 - ✗ 3. लॉन टेनिस (Lawn Tennis)
 - ✗ 4. टेबल टेनिस (Table Tennis)

Question Type : MCQ
Question ID : 264330137784
Option 1 ID : 264330539744
Option 2 ID : 264330539743
Option 3 ID : 264330539745
Option 4 ID : 264330539746
Status : Answered
Chosen Option : 1

Q.10 वॉलीबॉल खेल दो टीमों के बीच खेला जाता है जिसमें प्रत्येक टीम में _____ खिलाड़ी होते हैं।

- Ans
- ✗ 1. पाँच
 - ✗ 2. सात
 - ✓ 3. छः
 - ✗ 4. आठ

Question Type : MCQ
Question ID : 264330138652
Option 1 ID : 264330543215
Option 2 ID : 264330543217
Option 3 ID : 264330543216
Option 4 ID : 264330543218
Status : Answered
Chosen Option : 1

Q.11 किसने भारत के पंजाब में भगवान के निरंकार (निराकार) रूप की पूजा को बढ़ावा दिया?

- Ans
- ✗ 1. महाराजा रणजीत सिंह
 - ✗ 2. बाबा राम सिंह
 - ✓ 3. बाबा दयाल दास
 - ✗ 4. गुरु गोबिंद सिंह

Question Type : MCQ
Question ID : 264330133664
Option 1 ID : 264330523682
Option 2 ID : 264330523680
Option 3 ID : 264330523679
Option 4 ID : 264330523681
Status : Answered
Chosen Option : 3

Q.12 "भुगतान विज़न 2025 (Payments Vision 2025)" नाम की एक रिपोर्ट किस संस्था द्वारा जारी की गई है?

- Ans
- ✓ 1. भारतीय रिज़र्व बैंक
 - ✗ 2. नीति आयोग
 - ✗ 3. वित्त मंत्रालय
 - ✗ 4. कॉर्पोरेट मामलों के मंत्रालय

Question Type : MCQ

Question ID : 264330138658

Option 1 ID : 264330543241

Option 2 ID : 264330543242

Option 3 ID : 264330543239

Option 4 ID : 264330543240

Status : Answered

Chosen Option : 1

Q.13 सजीवों का शरीर सूक्ष्म इकाइयों से बनता है जो _____ कहलाती हैं।

- Ans
- ✗ 1. कलिकाएँ (buds)
 - ✗ 2. जीन (genes)
 - ✗ 3. तारक केन्द्र (centrioles)
 - ✓ 4. कोशिकाएँ (cells)

Question Type : MCQ

Question ID : 264330138662

Option 1 ID : 264330543255

Option 2 ID : 264330543256

Option 3 ID : 264330543257

Option 4 ID : 264330543258

Status : Answered

Chosen Option : 4

Q.14 किसी फर्म की माल-सूची में परिवर्तन को _____ के रूप में समझा जाता है।

- Ans
- ✓ 1. निवेश
 - ✗ 2. देयता
 - ✗ 3. परिसंपत्तियों
 - ✗ 4. विनिवेश

Question Type : MCQ

Question ID : 264330138256

Option 1 ID : 264330541632

Option 2 ID : 264330541631

Option 3 ID : 264330541633

Option 4 ID : 264330541634

Status : Answered

Chosen Option : 4

Q.15 किस प्रकार की कृषि कृषक परिवार की आवश्यकताओं को पूरा करने के लिए की जाती है?

- Ans
- 1. वाणिज्यिक कृषि
 - 2. मत्स्यपालन
 - 3. रेशम उत्पादन
 - 4. निर्वाह कृषि

Question Type : MCQ

Question ID : 264330138263

Option 1 ID : 264330541659

Option 2 ID : 264330541662

Option 3 ID : 264330541660

Option 4 ID : 264330541661

Status : Answered

Chosen Option : 4

Q.16 राष्ट्रीय जनसंख्या नीति (NPP) 2000 का दीर्घकालीन उद्देश्य वर्ष _____ तक स्थायी आर्थिक विकास, सामाजिक विकास और पर्यावरण संरक्षण के साथ देश की आबादी को स्थिर बनाए रखना है।

- Ans
- 1. 2045
 - 2. 2025
 - 3. 2055
 - 4. 2035

Question Type : MCQ

Question ID : 264330138891

Option 1 ID : 264330544173

Option 2 ID : 264330544171

Option 3 ID : 264330544174

Option 4 ID : 264330544172

Status : Answered

Chosen Option : 1

Q.17 हाल ही में संयुक्त राष्ट्र शरणार्थी पुरस्कार (UN refugee prize) पाने वाली एंजेला मर्केल (Angela Merkel) _____ हैं।

- Ans
- 1. शरणार्थियों के लिए संयुक्त राष्ट्र की उच्चायुक्त
 - 2. संयुक्त राष्ट्र की महासचिव
 - 3. यूक्रेन की राष्ट्रपति
 - 4. पूर्व जर्मन चांसलर

Question Type : MCQ

Question ID : 264330138657

Option 1 ID : 264330543237

Option 2 ID : 264330543238

Option 3 ID : 264330543236

Option 4 ID : 264330543235

Status : Answered

Chosen Option : 4

Q.18 निम्नलिखित में से कौन एक सारंगी वादक हैं?

- Ans
- ✓ 1. उस्ताद शकूर खान
 - ✗ 2. अनुराधा पौडवाल
 - ✗ 3. संदीप दास
 - ✗ 4. पंडित कृष्ण महाराज

Question Type : MCQ
Question ID : 264330138655
Option 1 ID : 264330543227
Option 2 ID : 264330543229
Option 3 ID : 264330543228
Option 4 ID : 264330543230
Status : Not Answered
Chosen Option : --

Q.19 'द रेस ऑफ माई लाइफ: एन ऑटोबायोग्राफी (The Race of My Life: An Autobiography)' किस प्रसिद्ध एथलीट द्वारा लिखी गई है?

- Ans
- ✗ 1. पी.वी. सिंधु
 - ✗ 2. राजविंदर कौर
 - ✓ 3. मिल्खा सिंह
 - ✗ 4. नितेंदर रावत

Question Type : MCQ
Question ID : 264330138251
Option 1 ID : 264330541611
Option 2 ID : 264330541613
Option 3 ID : 264330541614
Option 4 ID : 264330541612
Status : Answered
Chosen Option : 3

Q.20 अक्टूबर-नवंबर के दौरान, सूर्य की आभासी गति _____ की तरफ होती है।

- Ans
- ✗ 1. उत्तर-पश्चिम
 - ✗ 2. उत्तर-पूर्व
 - ✓ 3. दक्षिण
 - ✗ 4. उत्तर

Question Type : MCQ
Question ID : 264330138667
Option 1 ID : 264330543277
Option 2 ID : 264330543278
Option 3 ID : 264330543276
Option 4 ID : 264330543275
Status : Not Answered
Chosen Option : --

Q.21 बस्तर दशहरा भारत के _____ राज्य का एक प्रसिद्ध त्योहार है।

- Ans
- 1. बिहार
 - 2. छत्तीसगढ़
 - 3. अरुणाचल प्रदेश
 - 4. मणिपुर

Question Type : MCQ
Question ID : 264330133651
Option 1 ID : 264330523629
Option 2 ID : 264330523627
Option 3 ID : 264330523628
Option 4 ID : 264330523630
Status : Answered
Chosen Option : 1

Q.22 हौज़-ए-सुल्तानी (Hauz-i-Sultani) का निर्माण _____ ने करवाया था।

- Ans
- 1. बाबर
 - 2. सिकंदर लोदी
 - 3. इल्तुतमिश
 - 4. अकबर

Question Type : MCQ
Question ID : 264330137765
Option 1 ID : 264330539667
Option 2 ID : 264330539669
Option 3 ID : 264330539668
Option 4 ID : 264330539670
Status : Answered
Chosen Option : 2

Q.23 2011 की जनगणना के अनुसार भारत के किस राज्य की जनसंख्या सबसे कम है?

- Ans
- 1. छत्तीसगढ़
 - 2. बिहार
 - 3. सिक्किम
 - 4. केरल

Question Type : MCQ
Question ID : 264330133659
Option 1 ID : 264330523659
Option 2 ID : 264330523662
Option 3 ID : 264330523661
Option 4 ID : 264330523660
Status : Answered
Chosen Option : 3

Q.24 कौटिल्य की सहायता से किसने अंतिम नंद शासक धनानंद को पराजित किया था?

- Ans
- 1. अशोक
 - 2. चंद्रगुप्त मौर्य
 - 3. अकबर
 - 4. कालाशोक

Question Type : MCQ
Question ID : 264330133661
Option 1 ID : 264330523667
Option 2 ID : 264330523669
Option 3 ID : 264330523668
Option 4 ID : 264330523670
Status : Answered
Chosen Option : 2

Q.25 पेट की अम्लता को उदासीन करने के लिए निम्नलिखित में से किसका उपयोग प्रतिअम्ल (antacid) के रूप में किया जाता है?

- Ans
- 1. मॉर्फिन (Morphine)
 - 2. क्लोरीन (Chlorine)
 - 3. मैग्नीशियम हाइड्रॉक्साइड (Magnesium Hydroxide)
 - 4. आयोडोफार्म (Iodoform)

Question Type : MCQ
Question ID : 264330137768
Option 1 ID : 264330539681
Option 2 ID : 264330539680
Option 3 ID : 264330539679
Option 4 ID : 264330539682
Status : Answered
Chosen Option : 3

Section : English Language and Comprehension

Q.1 Improve the underlined part of the sentence. Choose 'No improvement' as an answer if the sentence is grammatically correct.

You can't bought anything with one cent anymore.

- Ans
- 1. could not buying anything
 - 2. No improvement
 - 3. can't buy anything
 - 4. should not bought anything

Question Type : MCQ
Question ID : 264330136800
Option 1 ID : 264330535899
Option 2 ID : 264330535902
Option 3 ID : 264330535901
Option 4 ID : 264330535900
Status : Answered
Chosen Option : 3

Q.2 Choose the incorrectly spelt word.

- Ans
- 1. Booking
 - 2. Rubing
 - 3. Shocker
 - 4. Tram

Question Type : MCQ
Question ID : 264330136791
Option 1 ID : 264330535865
Option 2 ID : 264330535863
Option 3 ID : 264330535864
Option 4 ID : 264330535866
Status : Answered
Chosen Option : 2

Q.3 Improve the underlined part of the sentence. Choose 'No improvement' as an answer if the sentence is grammatically correct.

It's going to rain today whether you like it or not.

- Ans
- 1. you liked it
 - 2. you likes it
 - 3. you likened it
 - 4. No improvement

Question Type : MCQ
Question ID : 264330136825
Option 1 ID : 264330535996
Option 2 ID : 264330535995
Option 3 ID : 264330535997
Option 4 ID : 264330535998
Status : Answered
Chosen Option : 4

Q.4 Select the most appropriate antonym of the given word.

Maladroit

- Ans
- 1. Inept
 - 2. Arrogant
 - 3. Awkward
 - 4. Skilful

Question Type : MCQ
Question ID : 264330136231
Option 1 ID : 264330533713
Option 2 ID : 264330533714
Option 3 ID : 264330533712
Option 4 ID : 264330533711
Status : Answered
Chosen Option : 4

Q.5 A sentence has been given with a blank to be filled with an appropriate option. Choose the correct alternative.

I don't remember exactly when the clouds rolled in and _____ you from me.

- Ans
- 1. stealing
 - 2. steal
 - 3. stolen
 - 4. stole

Question Type : **MCQ**

Question ID : **264330134301**

Option 1 ID : **264330526199**

Option 2 ID : **264330526202**

Option 3 ID : **264330526201**

Option 4 ID : **264330526200**

Status : **Answered**

Chosen Option : **2**

Q.6 Select the most appropriate word for the given group of words.

To forbid something, especially by law

- Ans
- 1. Propound
 - 2. Quarantine
 - 3. Proscribe
 - 4. Quench

Question Type : **MCQ**

Question ID : **264330136227**

Option 1 ID : **264330533697**

Option 2 ID : **264330533695**

Option 3 ID : **264330533698**

Option 4 ID : **264330533696**

Status : **Answered**

Chosen Option : **3**

Q.7 Find the part of the given sentence that has an error in it. If there is no error, choose 'No error'.

It's your carelessness that makes me went crazy all the time.

- Ans
- 1. crazy all the time.
 - 2. No error
 - 3. It's your carelessness
 - 4. that makes me went

Question Type : **MCQ**

Question ID : **264330134772**

Option 1 ID : **264330528037**

Option 2 ID : **264330528038**

Option 3 ID : **264330528035**

Option 4 ID : **264330528036**

Status : **Answered**

Chosen Option : **4**

Q.8 In the following question, out of the given four alternatives, select the alternative which best expresses the meaning of the Idiom/Phrase.

Bark up the wrong tree

- Ans**
- 1. To reach at a wrong address
 - 2. To scold someone for the mistake they have not done
 - 3. To waste one's energy or effort by pursuing the wrong thing
 - 4. To invest one's money in wrong business

Question Type : **MCQ**
Question ID : **264330136790**
Option 1 ID : **264330535860**
Option 2 ID : **264330535862**
Option 3 ID : **264330535859**
Option 4 ID : **264330535861**
Status : **Answered**
Chosen Option : **3**

Q.9 Choose the word that can substitute the given group of words.

Impossible to change or reverse

- Ans**
- 1. Order
 - 2. Coerce
 - 3. Irrevocable
 - 4. Intimidate

Question Type : **MCQ**
Question ID : **264330136784**
Option 1 ID : **264330535836**
Option 2 ID : **264330535837**
Option 3 ID : **264330535838**
Option 4 ID : **264330535835**
Status : **Answered**
Chosen Option : **3**

Q.10 Select the most appropriate meaning of the given idiom.

Queer somebody's pitch

- Ans**
- 1. To come out successfully
 - 2. To make an exaggerated statement
 - 3. A secret plan
 - 4. Upset someone's plans

Question Type : **MCQ**
Question ID : **264330136233**
Option 1 ID : **264330533719**
Option 2 ID : **264330533722**
Option 3 ID : **264330533721**
Option 4 ID : **264330533720**
Status : **Answered**
Chosen Option : **4**

Q.11 Find the part of the given sentence that has an error in it. If there is no error, choose 'No error'.

When you're chatting on the phone, do it in the living room instead off the kitchen.

- Ans**
- 1. No error
 - 2. instead off the kitchen.
 - 3. the phone, do it in the living room
 - 4. When you're chatting on

Question Type : **MCQ**
Question ID : **264330136822**
Option 1 ID : **264330535986**
Option 2 ID : **264330535985**
Option 3 ID : **264330535984**
Option 4 ID : **264330535983**
Status : **Answered**
Chosen Option : **2**

Q.12 Select the most appropriate option to fill in the blank.

"The Boarded Window" is a horror story about a man who has to _____ with his wife's death.

- Ans**
- 1. deed
 - 2. drill
 - 3. dwell
 - 4. deal

Question Type : **MCQ**
Question ID : **264330134318**
Option 1 ID : **264330526266**
Option 2 ID : **264330526264**
Option 3 ID : **264330526265**
Option 4 ID : **264330526263**
Status : **Answered**
Chosen Option : **4**

Q.13 Find the part of the given sentence that has an error in it. If there is no error, choose 'No error'.

The government have a rudimentary plan for an ecosystem for defence startups to fast-forward innovation.

- Ans**
- 1. an ecosystem for defence startups
 - 2. No error
 - 3. to fast-forward innovation.
 - 4. The government have a rudimentary plan for

Question Type : **MCQ**
Question ID : **264330136771**
Option 1 ID : **264330535788**
Option 2 ID : **264330535790**
Option 3 ID : **264330535789**
Option 4 ID : **264330535787**
Status : **Answered**
Chosen Option : **4**

Q.14 Select the most appropriate option to fill in the blank.

_____ food consumption can affect our bodies' immune systems.

- Ans**
- 1. Nutritious
 - 2. Sanitary
 - 3. Unhygienic
 - 4. Unwise

Question Type : **MCQ**
Question ID : **264330136794**
Option 1 ID : **264330535876**
Option 2 ID : **264330535878**
Option 3 ID : **264330535877**
Option 4 ID : **264330535875**
Status : **Answered**
Chosen Option : **3**

Q.15 Choose the sentence with no spelling error.

- Ans**
- 1. Sneha caught it and frowned.
 - 2. Sneha caught it and frouned.
 - 3. Sneha caught it and frowned.
 - 4. Sneha cuaght it and frowned.

Question Type : **MCQ**
Question ID : **264330134317**
Option 1 ID : **264330526259**
Option 2 ID : **264330526262**
Option 3 ID : **264330526261**
Option 4 ID : **264330526260**
Status : **Answered**
Chosen Option : **3**

Q.16 Select the appropriate antonym for the underlined word.

We frequently congratulate people on their accomplishment in becoming famous, but we seldom ever talk about the price of fame.

- Ans**
- 1. Triumph
 - 2. Execution
 - 3. Fiasco
 - 4. Feat

Question Type : **MCQ**
Question ID : **264330136788**
Option 1 ID : **264330535853**
Option 2 ID : **264330535854**
Option 3 ID : **264330535852**
Option 4 ID : **264330535851**
Status : **Answered**
Chosen Option : **1**

Q.17 Select the appropriate synonym for the underlined word.

The physics of laser-driven fusion is very complex.

- Ans 1. Convoluted
 2. Modest
 3. Simplified
 4. Streamline

Question Type : MCQ
Question ID : 264330136785
Option 1 ID : 264330535840
Option 2 ID : 264330535842
Option 3 ID : 264330535841
Option 4 ID : 264330535839
Status : Answered
Chosen Option : 1

Q.18 Improve the underlined part of the sentence. Choose 'No improvement' as an answer if the sentence is grammatically correct.

Many restaurants serve compliment bread with the meal.

- Ans 1. serve complimentary
 2. No improvement
 3. serve compliment
 4. serves complimentary

Question Type : MCQ
Question ID : 264330135285
Option 1 ID : 264330530056
Option 2 ID : 264330530058
Option 3 ID : 264330530055
Option 4 ID : 264330530057
Status : Answered
Chosen Option : 1

Q.19 Choose the word that means the same as the given word.
Upsetting

- Ans 1. Perturbing
 2. Amusing
 3. Aware
 4. Dreamy

Question Type : MCQ
Question ID : 264330134337
Option 1 ID : 264330526335
Option 2 ID : 264330526336
Option 3 ID : 264330526337
Option 4 ID : 264330526338
Status : Answered
Chosen Option : 2

Q.20 A sentence has been given with a blank to be filled with an appropriate option. Choose the correct alternative.
Sam was 24 years old when he _____ to California.

- Ans**
- 1. movement
 - 2. moving
 - 3. moved
 - 4. moves

Question Type : **MCQ**
Question ID : **264330136775**
Option 1 ID : **264330535806**
Option 2 ID : **264330535803**
Option 3 ID : **264330535805**
Option 4 ID : **264330535804**
Status : **Answered**
Chosen Option : **3**

Comprehension:

In the following passage some words have been deleted. Fill in the blanks with the help of the alternatives given. Select the most appropriate option for each number.

One of the myths (1) _____ with the Great Wall of China is that it is the only man-made (2) _____ that can be seen from the moon with the naked eye. The (3) _____ originated in Richard Halliburton's 1938 book Second Book of Marvels. However, this myth is simply not true. Richard Halliburton's claim was contradicted (4) _____ astronauts Neil Armstrongby and Yang Liwei. A more (5) _____ assumption would be to say that the Great Wall can be visible from a low orbit of the earth which is not unique in this regard as many other artificial constructions can be seen from that height.

SubQuestion No : 21

Q.21 Select the most appropriate option to fill in blank number 1.

- Ans**
- 1. organized
 - 2. associated
 - 3. depreciated
 - 4. disassociated

Question Type : **MCQ**
Question ID : **264330136222**
Option 1 ID : **264330533676**
Option 2 ID : **264330533678**
Option 3 ID : **264330533675**
Option 4 ID : **264330533677**
Status : **Answered**
Chosen Option : **2**

Comprehension:

In the following passage some words have been deleted. Fill in the blanks with the help of the alternatives given. Select the most appropriate option for each number.

One of the myths (1) _____ with the Great Wall of China is that it is the only man-made (2) _____ that can be seen from the moon with the naked eye. The (3) _____ originated in Richard Halliburton's 1938 book Second Book of Marvels. However, this myth is simply not true. Richard Halliburton's claim was contradicted (4) _____ astronauts Neil Armstrongby and Yang Liwei. A more (5) _____ assumption would be to say that the Great Wall can be visible from a low orbit of the earth which is not unique in this regard as many other artificial constructions can be seen from that height.

SubQuestion No : 22

Q.22 Select the most appropriate option to fill in blank number 2.

- Ans**
- 1. structure
 - 2. sculpture
 - 3. contracture
 - 4. conjecture

Question Type : **MCQ**
Question ID : **264330136223**
Option 1 ID : **264330533679**
Option 2 ID : **264330533680**
Option 3 ID : **264330533681**
Option 4 ID : **264330533682**
Status : **Answered**
Chosen Option : **1**

Comprehension:

In the following passage some words have been deleted. Fill in the blanks with the help of the alternatives given. Select the most appropriate option for each number.

One of the myths (1) _____ with the Great Wall of China is that it is the only man-made (2) _____ that can be seen from the moon with the naked eye. The (3) _____ originated in Richard Halliburton's 1938 book Second Book of Marvels. However, this myth is simply not true. Richard Halliburton's claim was contradicted (4) _____ astronauts Neil Armstrongby and Yang Liwei. A more (5) _____ assumption would be to say that the Great Wall can be visible from a low orbit of the earth which is not unique in this regard as many other artificial constructions can be seen from that height.

SubQuestion No : 23

Q.23 Select the most appropriate option to fill in blank number 3.

- Ans**
- 1. verity
 - 2. legend
 - 3. candour
 - 4. lagend

Question Type : **MCQ**
Question ID : **264330136224**
Option 1 ID : **264330533683**
Option 2 ID : **264330533685**
Option 3 ID : **264330533686**
Option 4 ID : **264330533684**
Status : **Answered**
Chosen Option : **1**

Comprehension:

In the following passage some words have been deleted. Fill in the blanks with the help of the alternatives given. Select the most appropriate option for each number.

One of the myths (1) _____ with the Great Wall of China is that it is the only man-made (2) _____ that can be seen from the moon with the naked eye. The (3) _____ originated in Richard Halliburton's 1938 book Second Book of Marvels. However, this myth is simply not true. Richard Halliburton's claim was contradicted (4) _____ astronauts Neil Armstrongby and Yang Liwei. A more (5) _____ assumption would be to say that the Great Wall can be visible from a low orbit of the earth which is not unique in this regard as many other artificial constructions can be seen from that height.

SubQuestion No : 24

Q.24 Select the most appropriate option to fill in blank number 4.

- Ans
- 1. in
 - 2. by
 - 3. from
 - 4. under

Question Type : **MCQ**
Question ID : **264330136225**
Option 1 ID : **264330533687**
Option 2 ID : **264330533688**
Option 3 ID : **264330533689**
Option 4 ID : **264330533690**
Status : **Answered**
Chosen Option : **2**

Comprehension:

In the following passage some words have been deleted. Fill in the blanks with the help of the alternatives given. Select the most appropriate option for each number.

One of the myths (1) _____ with the Great Wall of China is that it is the only man-made (2) _____ that can be seen from the moon with the naked eye. The (3) _____ originated in Richard Halliburton's 1938 book Second Book of Marvels. However, this myth is simply not true. Richard Halliburton's claim was contradicted (4) _____ astronauts Neil Armstrongby and Yang Liwei. A more (5) _____ assumption would be to say that the Great Wall can be visible from a low orbit of the earth which is not unique in this regard as many other artificial constructions can be seen from that height.

SubQuestion No : 25

Q.25 Select the most appropriate option to fill in blank number 5.

- Ans
- 1. accessible
 - 2. apprehensible
 - 3. permissible
 - 4. plausible

Question Type : **MCQ**
Question ID : **264330136226**
Option 1 ID : **264330533691**
Option 2 ID : **264330533692**
Option 3 ID : **264330533692**
Option 4 ID : **264330533694**
Status : **Answered**
Chosen Option : **4**

**Multi Tasking Non Technical Staff and Havaladar CBIC and CBN
Examination 2022**

Roll Number	KD Job Updates
Candidate Name	KD Job Updates
Venue Name	Tech Testing Solution
Exam Date	18/05/2023
Exam Time	3:30 PM - 5:00 PM
Subject	MTS Non Tech Havaladar CBIC and CBN Examination 2022

Section : Numerical and Mathematical Ability

Q.1 225 और 425 का महत्तम समापवर्तक (HCF) क्या है?

Ans 1. 17

2. 25

3. 5

4. 9

Question Type : **MCQ**

Question ID : **264330138726**

Option 1 ID : **264330543513**

Option 2 ID : **264330543512**

Option 3 ID : **264330543511**

Option 4 ID : **264330543514**

Status : **Answered**

Chosen Option : **2**

Q.2 नीचे दी गई तालिका में सात वर्षों में दो कंपनियों P और Q की आय को दर्शाया गया है।

वर्ष	P	Q
Y1	200	250
Y2	350	150
Y3	500	650
Y4	650	450
Y5	600	550
Y6	450	700
Y7	400	500

निम्नलिखित में से कौन-सा कथन सही नहीं है?

I. वर्ष Y1 में P की आय, वर्ष Y1 में Q की आय से 20 प्रतिशत कम है।

II. सभी वर्षों में P की कुल आय और Q की कुल आय का अनुपात 63 : 64 है।

Ans

✓ 1. केवल II

✗ 2. I और II दोनों

✗ 3. न तो I और न ही II

✗ 4. केवल I

Question Type : MCQ

Question ID : 264330137663

Option 1 ID : 264330539260

Option 2 ID : 264330539261

Option 3 ID : 264330539262

Option 4 ID : 264330539259

Status : Answered

Chosen Option : 1

Q.3 If the diagonal of a square is 18.4 cm, then the area of that square is:

Ans

✗ 1. 338.56 cm²

✗ 2. 84.64 cm²

✓ 3. 169.28 cm²

✗ 4. 324.42 cm²

Question Type : MCQ

Question ID : 264330138743

Option 1 ID : 264330543580

Option 2 ID : 264330543582

Option 3 ID : 264330543581

Option 4 ID : 264330543579

Status : Answered

Chosen Option : 3

Q.4 तीन संख्याओं का योग 126 है। यदि पहली और तीसरी का अनुपात 3:7 है और दूसरी और तीसरी का अनुपात 4:7 है, तो दूसरी संख्या क्या है?

- Ans
- ✓ 1. 36
 - ✗ 2. 56
 - ✗ 3. 27
 - ✗ 4. 63

Question Type : MCQ
Question ID : 264330134089
Option 1 ID : 264330525381
Option 2 ID : 264330525382
Option 3 ID : 264330525379
Option 4 ID : 264330525380
Status : Answered
Chosen Option : 1

Q.5 $2[1.5 \times 1.5 + 0.5 \times 0.5]$ का मान क्या है?

- Ans
- ✗ 1. 4
 - ✓ 2. 5
 - ✗ 3. 4.5
 - ✗ 4. 10

Question Type : MCQ
Question ID : 264330137662
Option 1 ID : 264330539255
Option 2 ID : 264330539257
Option 3 ID : 264330539256
Option 4 ID : 264330539258
Status : Answered
Chosen Option : 4

Q.6 A अकेले 12 दिनों में कार्य का $\frac{1}{4}$ भाग पूरा कर सकता है। B अकेले 4 दिनों में कार्य का $\frac{1}{5}$ भाग कर सकता है। A और B मिलकर समान कार्य को कितने दिनों में कर सकते हैं?

- Ans
- ✓ 1. 240/17 दिनों में
 - ✗ 2. 255/7 दिनों में
 - ✗ 3. 330/13 दिनों में
 - ✗ 4. 210/4 दिनों में

Question Type : MCQ
Question ID : 264330135384
Option 1 ID : 264330530444
Option 2 ID : 264330530443
Option 3 ID : 264330530445
Option 4 ID : 264330530446
Status : Answered
Chosen Option : 1

Q.7 66 cm त्रिज्या वाली एक ठोस गोलाकार गेंद से प्रत्येक 33 cm त्रिज्या वाली कितनी ठोस गोलाकार गेंदें बनाई जा सकती हैं?

- Ans
- 1. 4
 - 2. 7
 - 3. 8
 - 4. 3

Question Type : MCQ

Question ID : 264330135389

Option 1 ID : 264330530465

Option 2 ID : 264330530466

Option 3 ID : 264330530464

Option 4 ID : 264330530463

Status : Answered

Chosen Option : 3

Q.8 P, Q और R अकेले किसी कार्य को क्रमशः 30 घंटे, 10 घंटे और 15 घंटे में पूरा कर सकते हैं। यदि वे साथ मिलकर कार्य करें, तो वे कितने समय में इस कार्य को पूरा करेंगे?

- Ans
- 1. 4 घंटे
 - 2. 10 घंटे
 - 3. 5 घंटे
 - 4. 8 घंटे

Question Type : MCQ

Question ID : 264330138739

Option 1 ID : 264330543564

Option 2 ID : 264330543565

Option 3 ID : 264330543563

Option 4 ID : 264330543566

Status : Answered

Chosen Option : 3

Q.9 Rs. 21000 की राशि पर 6 माह के लिए 10% वार्षिक दर पर अर्धवार्षिक रूप से संयोजित चक्रवृद्धि ब्याज कितना होगा?

- Ans
- 1. Rs. 1250
 - 2. Rs. 1680
 - 3. Rs. 1850
 - 4. Rs. 1050

Question Type : MCQ

Question ID : 264330138737

Option 1 ID : 264330543558

Option 2 ID : 264330543557

Option 3 ID : 264330543556

Option 4 ID : 264330543555

Status : Answered

Chosen Option : 4

Q.10 कबीर और विक्की के वेतन का अनुपात 5:2 है। यदि उनके वेतन में क्रमशः 20% और 12% की वृद्धि की जाती है, तो उनके वेतन का नया अनुपात क्या होगा?

- Ans
- 1. 91:25
 - 2. 81:28
 - 3. 75:28
 - 4. 25:73

Question Type : MCQ
Question ID : 264330134090
Option 1 ID : 264330525386
Option 2 ID : 264330525385
Option 3 ID : 264330525383
Option 4 ID : 264330525384
Status : Answered
Chosen Option : 3

Q.11 एक वस्तु के मूल्य में 15% और 40% की दो क्रमागत वृद्धि, किस एकल मूल्य वृद्धि के बराबर है?

- Ans
- 1. 55%
 - 2. 52%
 - 3. 61%
 - 4. 60%

Question Type : MCQ
Question ID : 264330138730
Option 1 ID : 264330543528
Option 2 ID : 264330543530
Option 3 ID : 264330543529
Option 4 ID : 264330543527
Status : Answered
Chosen Option : 3

Q.12 मीना एक यात्रा 33 घंटों में पूरी करती है। वह यात्रा की एक-चौथाई दूरी 60 km/hr की चाल से और शेष दूरी 40 km/hr की चाल से तय करती है। km में कुल तय की गई दूरी कितनी है?

- Ans
- 1. 1440 km
 - 2. 480 km
 - 3. 1220 km
 - 4. 680 km

Question Type : MCQ
Question ID : 264330134093
Option 1 ID : 264330525398
Option 2 ID : 264330525395
Option 3 ID : 264330525397
Option 4 ID : 264330525396
Status : Not Answered
Chosen Option : --

Q.13 P, Q और R की औसत आयु 19 वर्ष है और P और Q की औसत आयु 20 वर्ष है। R की वर्तमान आयु है:

- Ans
- ✓ 1. 17 वर्ष
 - ✗ 2. 20 वर्ष
 - ✗ 3. 22 वर्ष
 - ✗ 4. 15 वर्ष

Question Type : MCQ
Question ID : 264330134083
Option 1 ID : 264330525357
Option 2 ID : 264330525355
Option 3 ID : 264330525356
Option 4 ID : 264330525358
Status : Answered
Chosen Option : 1

Q.14 साधारण ब्याज पर एक धनराशि 3 वर्ष में Rs. 14,400 और 4 वर्ष में Rs. 15,500 हो जाती है। वह धनराशि ज्ञात कीजिए।

- Ans
- ✗ 1. Rs. 20,000
 - ✗ 2. Rs. 10,000
 - ✗ 3. Rs. 10,080
 - ✓ 4. Rs. 11,100

Question Type : MCQ
Question ID : 264330138380
Option 1 ID : 264330542130
Option 2 ID : 264330542128
Option 3 ID : 264330542127
Option 4 ID : 264330542129
Status : Answered
Chosen Option : 4

Q.15 रोहित Rs. 1280 में एक पुराना बल्ला खरीदता है और उसकी मरम्मत पर Rs. 120 खर्च करता है। यदि वह इसे Rs. 1050 में बेचता है, तो उसका हानि प्रतिशत क्या है?

- Ans
- ✓ 1. 25 प्रतिशत
 - ✗ 2. 20 प्रतिशत
 - ✗ 3. 40 प्रतिशत
 - ✗ 4. 30 प्रतिशत

Question Type : MCQ
Question ID : 264330137159
Option 1 ID : 264330537281
Option 2 ID : 264330537282
Option 3 ID : 264330537279
Option 4 ID : 264330537280
Status : Answered
Chosen Option : 1

Q.16 $\left\{ \frac{3}{4} \text{ of } 60 \div 9 \right\} \times 0.02$ का मान है:

- Ans 1. 0.10
 2. 0.05
 3. 0.20
 4. 0.02

Question Type : MCQ

Question ID : 264330134081

Option 1 ID : 264330525349

Option 2 ID : 264330525348

Option 3 ID : 264330525350

Option 4 ID : 264330525347

Status : Answered

Chosen Option : 1

Q.17 एक रेफ्रिजरेटर और एक वॉशिंग मशीन को Rs. 24000 प्रति मूल्य पर बेचा गया। यदि रेफ्रिजरेटर को 20% के लाभ पर और वॉशिंग मशीन को 20% की हानि पर बेचा गया, तो पूरे लेन-देन में कुल लाभ या हानि प्रतिशत कितना है?

- Ans 1. 5% हानि
 2. 5% लाभ
 3. 4% लाभ
 4. 4% हानि

Question Type : MCQ

Question ID : 264330134087

Option 1 ID : 264330525374

Option 2 ID : 264330525372

Option 3 ID : 264330525371

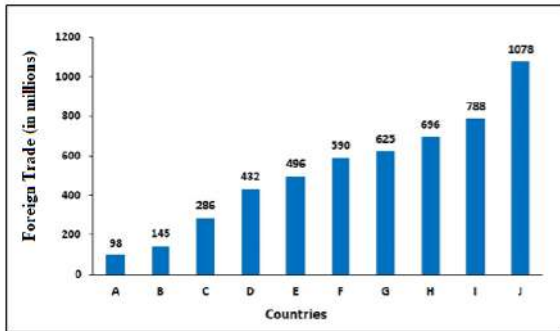
Option 4 ID : 264330525373

Status : Answered

Chosen Option : 4

Q.18 नीचे दिए गए दंड आलेख में वर्ष 2015-2016 में देशों द्वारा किए गए विदेशी व्यापार को दर्शाया गया है।

न्यूनतम व्यापार और अधिकतम व्यापार का अनुपात कितना था?



Foreign trade (in millions)- विदेशी व्यापार (मिलियन में), Countries- देश

- Ans
- 1. 8:5
 - 2. 3:14
 - 3. 4:11
 - 4. 1:11

Question Type : MCQ

Question ID : 264330134097

Option 1 ID : 264330525413

Option 2 ID : 264330525411

Option 3 ID : 264330525412

Option 4 ID : 264330525414

Status : Answered

Chosen Option : 4

Q.19 Rs. 10000 के एक बिल पर मिले 20% के एक बट्टे और 16% और 4% के दो क्रमागत बट्टों के बीच का अंतर है:

- Ans
- 1. Rs. 72
 - 2. Rs. 19.36
 - 3. Rs. 22.32
 - 4. Rs. 64

Question Type : MCQ

Question ID : 264330134088

Option 1 ID : 264330525378

Option 2 ID : 264330525375

Option 3 ID : 264330525377

Option 4 ID : 264330525376

Status : Answered

Chosen Option : 2

Q.20 एक ट्रक पहले घंटे में 40 km और दूसरे घंटे में 50 km की यात्रा करता है। ट्रक की औसत चाल क्या है?

- Ans
- 1. 48 km/hr
 - 2. 45 km/hr
 - 3. 50 km/hr
 - 4. 40 km/hr

Question Type : MCQ

Question ID : 264330138439

Option 1 ID : 264330542365

Option 2 ID : 264330542366

Option 3 ID : 264330542364

Option 4 ID : 264330542363

Status : Answered

Chosen Option : 2

Section : Reasoning Ability and Problem Solving

Q.1 दिए गए समीकरण को सही करने के लिए किन दो संख्याओं को आपस में बदला जाना चाहिए?

$$12 \div 72 \times 3 - 13 = 5$$

- Ans
- 1. 13 और 5
 - 2. 12 और 3
 - 3. 12 और 72
 - 4. 13 और 3

Question Type : MCQ

Question ID : 264330133711

Option 1 ID : 264330523867

Option 2 ID : 264330523868

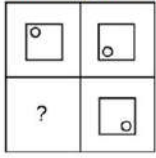
Option 3 ID : 264330523869

Option 4 ID : 264330523870

Status : Answered

Chosen Option : 3

Q.2 उस विकल्प आकृति को चुनिए जो नीचे दी गई आकृति में पैटर्न को पूरा करने के लिए प्रश्न चिन्ह (?) के स्थान पर आएगी। (घूर्णन की अनुमति नहीं है)।



Ans

- ✗ 1.
- ✓ 2.
- ✗ 3.
- ✗ 4.

Question Type : **MCQ**

Question ID : **264330133715**

Option 1 ID : **264330523883**

Option 2 ID : **264330523886**

Option 3 ID : **264330523885**

Option 4 ID : **264330523884**

Status : **Answered**

Chosen Option : **2**

Q.3 M, N, O, P, Q, और R एक वृत्ताकार मेज पर एक-दूसरे की ओर मुख करके बैठे हैं। O, R के ठीक बाईं ओर बैठा है और N, O की बाईं ओर, दूसरे स्थान पर बैठा है। M, Q की बाईं ओर, दूसरे स्थान पर बैठा है। R और M के ठीक मध्य में कौन बैठा है?

- ✗ 1. Q
- ✗ 2. O
- ✓ 3. P
- ✗ 4. N

Question Type : **MCQ**

Question ID : **264330133703**

Option 1 ID : **264330523837**

Option 2 ID : **264330523836**

Option 3 ID : **264330523835**

Option 4 ID : **264330523838**

Status : **Answered**

Chosen Option : **3**

Q.4 पाँच पुरुष अंकित, विशाल, चैंडलर, दक्ष और जॉय एक मेज पर उत्तर की ओर मुख करके बैठे हैं। अंकित, दक्ष के ठीक बाईं ओर बैठा है, जो कोने पर नहीं बैठा है। जॉय, विशाल और चैंडलर के ठीक मध्य में बैठा है। सबसे बाएँ छोर पर कौन बैठा है?

- Ans
- 1. जॉय
 - 2. चैंडलर
 - 3. विशाल
 - 4. अंकित

Question Type : MCQ
Question ID : 264330133702
Option 1 ID : 264330523833
Option 2 ID : 264330523834
Option 3 ID : 264330523832
Option 4 ID : 264330523831
Status : Answered
Chosen Option : 4

Q.5 निम्नलिखित प्रश्न में, दी गई श्रृंखला में लुप्त संख्या को चुनिए ।

200, 174, 148, 122, 96, ?

- Ans
- 1. 80
 - 2. 70
 - 3. 74
 - 4. 71

Question Type : MCQ
Question ID : 264330138594
Option 1 ID : 264330542985
Option 2 ID : 264330542984
Option 3 ID : 264330542983
Option 4 ID : 264330542986
Status : Answered
Chosen Option : 2

Q.6 उस विकल्प को चुनिए जो तीसरे शब्द से ठीक उसी तरह संबंधित है जिस तरह दूसरा शब्द पहले शब्द से संबंधित है।
हैदराबाद : तेलगाना :: गंगटोक : ?

- Ans
- 1. केरल
 - 2. सिक्किम
 - 3. उत्तराखंड
 - 4. गोवा

Question Type : MCQ
Question ID : 264330133697
Option 1 ID : 264330523811
Option 2 ID : 264330523813
Option 3 ID : 264330523814
Option 4 ID : 264330523812
Status : Answered
Chosen Option : 2

Q.7 सुबह की सभा के दौरान सात छात्र M, N, O, P, Q, R और S अपने कद के आरोही क्रम में खड़े हैं। सबसे छोटे कद वाला छात्र सभा की लाइन में सबसे आगे खड़ा है और सबसे ऊँचे कद वाला छात्र लाइन में सबसे पीछे खड़ा है। M, Q के ठीक पीछे और P के ठीक सामने खड़ा है। R और S के बीच केवल दो छात्र खड़े हैं। N केवल एक छात्र से लंबा है। R सबसे छोटा नहीं है। सबसे लंबा छात्र कौन है?

- Ans**
- 1. R
 - 2. O
 - 3. M
 - 4. P

Question Type : **MCQ**
Question ID : **264330133704**
Option 1 ID : **264330523840**
Option 2 ID : **264330523842**
Option 3 ID : **264330523841**
Option 4 ID : **264330523839**
Status : **Answered**
Chosen Option : **1**

Q.8 दी गई श्रृंखला में निम्नलिखित में से कौन-सी संख्या प्रश्न चिन्ह (?) के स्थान पर आएगी?
46, 50, 58, 70, 86, 106, ?

- Ans**
- 1. 140
 - 2. 280
 - 3. 150
 - 4. 130

Question Type : **MCQ**
Question ID : **264330133708**
Option 1 ID : **264330523855**
Option 2 ID : **264330523856**
Option 3 ID : **264330523857**
Option 4 ID : **264330523858**
Status : **Answered**
Chosen Option : **4**

Q.9 उस विकल्प को चुनिए जो तीसरे शब्द से ठीक उसी तरह संबंधित है जिस तरह दूसरा शब्द पहले शब्द से संबंधित है।
हाइड्रोजन : तत्व :: कार्बन डाइऑक्साइड : ?

- Ans**
- 1. द्रव (Liquid)
 - 2. फल (Fruit)
 - 3. यौगिक (Compound)
 - 4. अंग (Organ)

Question Type : **MCQ**
Question ID : **264330133698**
Option 1 ID : **264330523818**
Option 2 ID : **264330523817**
Option 3 ID : **264330523815**
Option 4 ID : **264330523816**
Status : **Answered**
Chosen Option : **3**

Q.10 एक निश्चित कूट भाषा में, 'UKSH' को '8TL21' लिखा जाता है। उस कूट भाषा में 'GAIN' को कैसे लिखा जाएगा?

- Ans
- 1. 15JB7
 - 2. 14J7B
 - 3. 14JB8
 - 4. 14JB7

Question Type : MCQ
Question ID : 264330137792
Option 1 ID : 264330539778
Option 2 ID : 264330539776
Option 3 ID : 264330539777
Option 4 ID : 264330539775
Status : Answered
Chosen Option : 4

Q.11 Two Statements are given followed by two conclusions numbered I and II. Assuming the statements to be true, even if they seem to be at variance with commonly known facts, decide which of the conclusions logically follow (s) from the statements.

Statements:

Some pens are black.

No black is blue.

Conclusions:

I. No pen is blue.

II. Some pens are not black.

- Ans
- 1. Only conclusion II follows
 - 2. Both conclusions I and II follow
 - 3. Only conclusion I follows
 - 4. Neither conclusion I nor II follows

Question Type : MCQ
Question ID : 264330133705
Option 1 ID : 264330523844
Option 2 ID : 264330523845
Option 3 ID : 264330523843
Option 4 ID : 264330523846
Status : Answered
Chosen Option : 4

Q.12 दिए गए दो चिन्हों को आपस में बदलने पर, समीकरण (I) और (II) के क्रमशः मान क्या होंगे?

+ और -

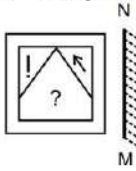
I. $18 \div 3 + 6 \times 2 - 8$

II. $15 \times 3 - 45 \div 5 + 30$

- Ans
- 1. 3 और 25
 - 2. 2 और 24
 - 3. 24 और 2
 - 4. 2 और 66

Question Type : MCQ
Question ID : 264330138494
Option 1 ID : 264330542586
Option 2 ID : 264330542584
Option 3 ID : 264330542585
Option 4 ID : 264330542583
Status : Answered
Chosen Option : 2

Q.13 दी गई आकृति के उस सही दर्पण प्रतिबिंब को चुनिए, जो दर्पण MN को आकृति के दाईं ओर रखने पर बनेगा।

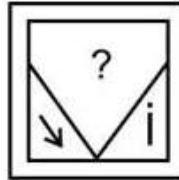


Ans

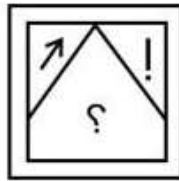
✗ 1.



✗ 2.



✓ 3.



✗ 4.



Question Type : MCQ

Question ID : 264330137579

Option 1 ID : 264330538925

Option 2 ID : 264330538923

Option 3 ID : 264330538924

Option 4 ID : 264330538926

Status : Answered

Chosen Option : 3

Q.14 एक निश्चित कूट भाषा में, 'COSTLY' को '3P19U12Z' लिखा जाता है। उस कूट भाषा में 'EXTEND' को कैसे लिखा जाएगा?

Ans

✗ 1. 5X20F14E

✗ 2. 5Y20G14E

✗ 3. 5Y30F14E

✓ 4. 5Y20F14E

Question Type : MCQ

Question ID : 264330138813

Option 1 ID : 264330543862

Option 2 ID : 264330543860

Option 3 ID : 264330543859

Option 4 ID : 264330543861

Status : Answered

Chosen Option : 4

Q.15 उस विकल्प को चुनिए जो पाँचवीं संख्या से ठीक उसी प्रकार संबंधित है जिस प्रकार दूसरी संख्या पहली संख्या से संबंधित है और चौथी संख्या तीसरी संख्या से संबंधित है।

18 : 190 :: 20 : 210 :: 22 : ?

- Ans 1. 230
 2. 190
 3. 200
 4. 210

Question Type : MCQ
Question ID : 264330138596
Option 1 ID : 264330542993
Option 2 ID : 264330542994
Option 3 ID : 264330542991
Option 4 ID : 264330542992
Status : Answered
Chosen Option : 1

Q.16 दी गई श्रृंखला में निम्नलिखित में से कौन-सा अक्षर प्रश्न चिन्ह (?) के स्थान पर आएगा?
E, J, O, T, Y, D, ?

- Ans 1. I
 2. M
 3. O
 4. R

Question Type : MCQ
Question ID : 264330133696
Option 1 ID : 264330523808
Option 2 ID : 264330523807
Option 3 ID : 264330523809
Option 4 ID : 264330523810
Status : Answered
Chosen Option : 1

Q.17 दिए गए पैटर्न का ध्यानपूर्वक अध्ययन कीजिए और उस संख्या को चुनिए जो इस पैटर्न में प्रश्न चिन्ह (?) के स्थान पर आ सकती है?
प्रथम पंक्ति- 11, 19, 27
द्वितीय पंक्ति- 17, 25, 33
तृतीय पंक्ति- 23, 31, ?

- Ans 1. 33
 2. 39
 3. 14
 4. 40

Question Type : MCQ
Question ID : 264330133710
Option 1 ID : 264330523866
Option 2 ID : 264330523864
Option 3 ID : 264330523865
Option 4 ID : 264330523863
Status : Answered
Chosen Option : 2

Q.18 किसी एक खास कूट भाषा में, 'RIVER' को 'SJWFS' लिखा जाता है और 'BROWN' को 'CSPXO' लिखा जाता है। उस कूट भाषा में 'PRESS' को कैसे लिखा जाएगा?

- Ans
- 1. QSGTT
 - 2. QSFUU
 - 3. GSFRR
 - 4. QSFTT

Question Type : **MCQ**

Question ID : **264330133470**

Option 1 ID : **264330522912**

Option 2 ID : **264330522913**

Option 3 ID : **264330522914**

Option 4 ID : **264330522911**

Status : **Answered**

Chosen Option : **4**

Q.19 Three Statements are given followed by two conclusions numbered I and II. Assuming the statements to be true, even if they seem to be at variance with commonly known facts, decide which of the conclusions logically follow (s) from the statements.

Statements:

Some nachos are patties.

Some patties are pastries.

No pastry is a chocolate.

Conclusions:

I. No nacho is a chocolate.

II. Some nachos are pastries.

- Ans
- 1. Both conclusions I and II follow
 - 2. Only conclusion I follows
 - 3. Neither conclusion I nor II follows
 - 4. Only conclusion II follows

Question Type : **MCQ**

Question ID : **264330133706**

Option 1 ID : **264330523849**

Option 2 ID : **264330523847**

Option 3 ID : **264330523850**

Option 4 ID : **264330523848**

Status : **Answered**

Chosen Option : **3**

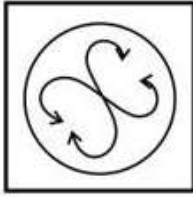
Q.20 उस विकल्प आकृति को चुनिए जिसमें दी गई आकृति (X) उसके भाग के रूप में निहित है (पूर्ण की अनुमति नहीं है)।



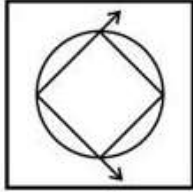
(X)

Ans

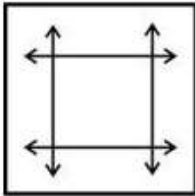
✗ 1.



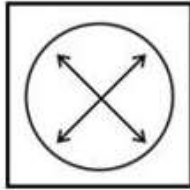
✗ 2.



✓ 3.



✗ 4.



Question Type : **MCQ**

Question ID : **264330137578**

Option 1 ID : **264330538920**

Option 2 ID : **264330538921**

Option 3 ID : **264330538922**

Option 4 ID : **264330538919**

Status : **Answered**

Chosen Option : **3**

Section : **General Awareness**

Q.1 पादप कोशिका में एक बड़ी केन्द्रीय _____ होती है जबकि जंतु कोशिका में अनेक छोटी-छोटी _____ होती हैं।

- Ans
- 1. कोशिका भित्ति, कोशिका भित्तियाँ
 - 2. ऊतक, ऊतक
 - 3. कोशिका झिल्ली, कोशिका झिल्लियाँ
 - 4. रिक्तिका, रिक्तिकाएँ

Question Type : MCQ

Question ID : 264330138663

Option 1 ID : 264330543261

Option 2 ID : 264330543259

Option 3 ID : 264330543262

Option 4 ID : 264330543260

Status : Answered

Chosen Option : 3

Q.2 According to Census 2011, which among the following has the minimum population density?

- Ans
- 1. Andhra Pradesh
 - 2. Arunachal Pradesh
 - 3. Chandigarh
 - 4. Sikkim

Question Type : MCQ

Question ID : 264330134655

Option 1 ID : 264330527577

Option 2 ID : 264330527575

Option 3 ID : 264330527576

Option 4 ID : 264330527578

Status : Answered

Chosen Option : 2

Q.3 The basic unit of speed of an object is _____.

- Ans
- 1. metre per km (m/km)
 - 2. metre per minute (m/m)
 - 3. metre per hour (m/h)
 - 4. metre per second (m/s)

Question Type : MCQ

Question ID : 264330138665

Option 1 ID : 264330543270

Option 2 ID : 264330543268

Option 3 ID : 264330543269

Option 4 ID : 264330543267

Status : Answered

Chosen Option : 4

Q.4 1540 में कन्नौज के युद्ध में निम्नलिखित में से किसकी हार हुई थी?

- Ans
- 1. हेमू
 - 2. हुमायूँ
 - 3. अकबर
 - 4. शेरशाह

Question Type : MCQ
Question ID : 264330137749
Option 1 ID : 264330539603
Option 2 ID : 264330539604
Option 3 ID : 264330539605
Option 4 ID : 264330539606
Status : Answered
Chosen Option : 2

Q.5 एनी बेसेंट ने 1898 में _____ में सेंट्रल हिंदू कॉलेज की नींव रखी जहाँ हिंदू धर्म (Hindu religion) और पश्चिमी वैज्ञानिक विषय (Western scientific subjects) दोनों पढ़ाए जाते थे।

- Ans
- 1. चेन्नई
 - 2. पुणे
 - 3. बनारस
 - 4. कोलकाता

Question Type : MCQ
Question ID : 264330137752
Option 1 ID : 264330539617
Option 2 ID : 264330539618
Option 3 ID : 264330539616
Option 4 ID : 264330539615
Status : Answered
Chosen Option : 4

Q.6 निम्न में से कौन-सा विटामिन जल में विलेय है?

- Ans
- 1. विटामिन डी (Vitamin-D)
 - 2. विटामिन सी (Vitamin-C)
 - 3. विटामिन ए (Vitamin-A)
 - 4. विटामिन ई (Vitamin-E)

Question Type : MCQ
Question ID : 264330134062
Option 1 ID : 264330525273
Option 2 ID : 264330525271
Option 3 ID : 264330525272
Option 4 ID : 264330525274
Status : Answered
Chosen Option : 2

Q.7 A temporary alliance of groups or parties is called a _____.

- Ans
- 1. Federalism
 - 2. Constituency
 - 3. Veto
 - 4. Coalition

Question Type : MCQ
Question ID : 264330138257
Option 1 ID : 264330541636
Option 2 ID : 264330541637
Option 3 ID : 264330541638
Option 4 ID : 264330541635
Status : Answered
Chosen Option : 4

Q.8 शतरंज की बिसात पर कितने सफेद वर्ग होते हैं?

- Ans
- 1. 32
 - 2. 22
 - 3. 64
 - 4. 204

Question Type : MCQ
Question ID : 264330134078
Option 1 ID : 264330525335
Option 2 ID : 264330525337
Option 3 ID : 264330525336
Option 4 ID : 264330525338
Status : Answered
Chosen Option : 2

Q.9 एलीफेंटा की गुफाँ किस राज्य में स्थित हैं?

- Ans
- 1. महाराष्ट्र
 - 2. राजस्थान
 - 3. गुजरात
 - 4. कर्नाटक

Question Type : MCQ
Question ID : 264330138248
Option 1 ID : 264330541601
Option 2 ID : 264330541599
Option 3 ID : 264330541600
Option 4 ID : 264330541602
Status : Answered
Chosen Option : 1

Q.10 सुल्तान मुहम्मद गोरी ने सन् _____ में पृथ्वीराज तृतीय को हराया था।

- Ans
- 1. 1191
 - 2. 1195
 - 3. 1211
 - 4. 1192

Question Type : MCQ
Question ID : 264330138671
Option 1 ID : 264330543291
Option 2 ID : 264330543293
Option 3 ID : 264330543294
Option 4 ID : 264330543292
Status : Answered
Chosen Option : 4

Q.11 संयुक्त राष्ट्र की एक रिपोर्ट के अनुसार, भारत 2023 तक _____ को पीछे छोड़कर दुनिया का सर्वाधिक आबादी वाला देश बन जाएगा।

- Ans
- 1. पाकिस्तान
 - 2. चीन
 - 3. संयुक्त राज्य अमेरिका
 - 4. इंडोनेशिया

Question Type : MCQ
Question ID : 264330137772
Option 1 ID : 264330539697
Option 2 ID : 264330539696
Option 3 ID : 264330539695
Option 4 ID : 264330539698
Status : Answered
Chosen Option : 2

Q.12 कुचिपुड़ी किस राज्य का शास्त्रीय नृत्य है?

- Ans
- 1. केरल
 - 2. बिहार
 - 3. आंध्रप्रदेश
 - 4. तमिलनाडु

Question Type : MCQ
Question ID : 264330134058
Option 1 ID : 264330525255
Option 2 ID : 264330525256
Option 3 ID : 264330525258
Option 4 ID : 264330525257
Status : Answered
Chosen Option : 3

Q.13 Among the following, which of these are an example of capital receipt?

- Ans
- 1. Commission and dividend received
 - 2. Rent and commission received
 - 3. Borrowings and loan recovery
 - 4. Sale of goods and rent

Question Type : MCQ

Question ID : 264330137918

Option 1 ID : 264330540282

Option 2 ID : 264330540281

Option 3 ID : 264330540279

Option 4 ID : 264330540280

Status : Not Answered

Chosen Option : --

Q.14 'खिचड़ी (Kicheri)', एक फसल कटाई उत्सव है जिसमें अनुष्ठानिक स्नान किया जाता है, यह मुख्य रूप से _____ में मनाया जाता है।

- Ans
- 1. मध्यप्रदेश
 - 2. उत्तरप्रदेश
 - 3. गुजरात
 - 4. हरियाणा

Question Type : MCQ

Question ID : 264330137739

Option 1 ID : 264330539563

Option 2 ID : 264330539564

Option 3 ID : 264330539566

Option 4 ID : 264330539565

Status : Answered

Chosen Option : 2

Q.15 The Himalayan Mountain range was formed by the collision of _____ .

- Ans
- 1. Indian Plate and Eurasian Plate
 - 2. African Plate and Australian Plate
 - 3. Eurasian Plate and African Plate
 - 4. Indian Plate and African Plate

Question Type : MCQ

Question ID : 264330134066

Option 1 ID : 264330525288

Option 2 ID : 264330525287

Option 3 ID : 264330525290

Option 4 ID : 264330525289

Status : Answered

Chosen Option : 1

Q.16 "प्लेइंग इट माई वे" _____ की आत्मकथा है।

- Ans
- 1. राहुल द्रविड़
 - 2. युवराज सिंह
 - 3. सचिन तेंदुलकर
 - 4. एम एस धोनी

Question Type : MCQ
Question ID : 264330137911
Option 1 ID : 264330540252
Option 2 ID : 264330540253
Option 3 ID : 264330540254
Option 4 ID : 264330540251
Status : Answered
Chosen Option : 3

Q.17 राज्य सभा में राष्ट्रपति द्वारा मनोनीत किए जाने वाले _____ सदस्य होते हैं।

- Ans
- 1. दस
 - 2. छः
 - 3. बारह
 - 4. पाँच

Question Type : MCQ
Question ID : 264330134077
Option 1 ID : 264330525332
Option 2 ID : 264330525334
Option 3 ID : 264330525333
Option 4 ID : 264330525331
Status : Answered
Chosen Option : 2

Q.18 सचिन तेंदुलकर को "भारत रत्न पुरस्कार" किस वर्ष मिला था?

- Ans
- 1. 2012
 - 2. 2011
 - 3. 2013
 - 4. 2014

Question Type : MCQ
Question ID : 264330138653
Option 1 ID : 264330543220
Option 2 ID : 264330543219
Option 3 ID : 264330543221
Option 4 ID : 264330543222
Status : Answered
Chosen Option : 4

Q.19 किस कथक नर्तकी को पद्म श्री और संगीत नाटक अकादमी पुरस्कार से सम्मानित किया गया था?

- Ans
- 1. हेमा मालिनी
 - 2. कौशल्या रेड्डी
 - 3. श्रीदेवी
 - 4. सितारा देवी

Question Type : MCQ
Question ID : 264330137913
Option 1 ID : 264330540260
Option 2 ID : 264330540262
Option 3 ID : 264330540261
Option 4 ID : 264330540259
Status : Answered
Chosen Option : 4

Q.20 भारतीय संविधान के अनुच्छेद 356 और 360 _____ पर आधारित अनुच्छेद हैं।

- Ans
- 1. क्षेत्रीय भाषाओं
 - 2. निर्वाचनों
 - 3. आपातकालीन प्रावधानों
 - 4. संविधान संशोधन

Question Type : MCQ
Question ID : 264330134076
Option 1 ID : 264330525330
Option 2 ID : 264330525328
Option 3 ID : 264330525327
Option 4 ID : 264330525329
Status : Answered
Chosen Option : 3

Q.21 निम्नलिखित में से किस भारतीय गायक ने ग्रैमी (Grammy) पुरस्कार जीता है?

- Ans
- 1. मोहम्मद रफी(Mohammed Rafi)
 - 2. कुमार सानू(Kumar Sanu)
 - 3. अरिजीत सिंह(Arijit Singh)
 - 4. ए. आर. रहमान (A R Rahman)

Question Type : MCQ
Question ID : 264330134074
Option 1 ID : 264330525322
Option 2 ID : 264330525321
Option 3 ID : 264330525320
Option 4 ID : 264330525319
Status : Answered
Chosen Option : 4

Q.22 The breaking up of the rocks on the earth's surface is called as _____.

- Ans
- 1. weathering
 - 2. stacking
 - 3. meandering
 - 4. sorting

Question Type : MCQ
Question ID : 264330138664
Option 1 ID : 264330543264
Option 2 ID : 264330543266
Option 3 ID : 264330543263
Option 4 ID : 264330543265
Status : Answered
Chosen Option : 2

Q.23 In 1600, the East India company acquired a charter from _____.

- Ans
- 1. Queen Elizabeth I
 - 2. Queen Victoria
 - 3. King Henry IV
 - 4. King Edward VI

Question Type : MCQ
Question ID : 264330138269
Option 1 ID : 264330541683
Option 2 ID : 264330541685
Option 3 ID : 264330541686
Option 4 ID : 264330541684
Status : Answered
Chosen Option : 1

Q.24 मनरेगा (MGNREGA) योजना के संदर्भ में, ग्रामीण अकुशल श्रमिकों को कितने दिनों का गारंटीयुक्त मजदूरी रोजगार उपलब्ध कराया जाता है?

- Ans
- 1. 150
 - 2. 100
 - 3. 120
 - 4. 90

Question Type : MCQ
Question ID : 264330134056
Option 1 ID : 264330525250
Option 2 ID : 264330525248
Option 3 ID : 264330525249
Option 4 ID : 264330525247
Status : Not Answered
Chosen Option : --

Q.25 निम्नलिखित में से सिंचाई की किस विधि में जल बूँद-बूँद करके सीधे पौधों की जड़ों में गिरता है?

- Ans
- 1. हस्त-सिंचाई (Manual irrigation)
 - 2. छिड़काव तंत्र (Sprinkler system)
 - 3. ड्रिप तंत्र (Drip system)
 - 4. लेटरल मूव इरीगेशन (Lateral move irrigation)

Question Type : MCQ
Question ID : 264330137903
Option 1 ID : 264330540220
Option 2 ID : 264330540221
Option 3 ID : 264330540222
Option 4 ID : 264330540219
Status : Answered
Chosen Option : 3

Section : English Language and Comprehension

Q.1 In the following question, out of the given four alternatives, select the alternative which best expresses the meaning of the Idiom/Phrase.
To go a long way

- Ans
- 1. To avoid short cuts
 - 2. To become successful in life
 - 3. To join a foreign company
 - 4. To go on a long drive

Question Type : MCQ
Question ID : 264330134549
Option 1 ID : 264330527154
Option 2 ID : 264330527151
Option 3 ID : 264330527152
Option 4 ID : 264330527153
Status : Answered
Chosen Option : 2

Q.2 Improve the underlined part of the sentence. Choose 'No improvement' as an answer if the sentence is grammatically correct.

There has been a spate of some unfortunately events in Madurai.

- Ans
- 1. unfortunate some events
 - 2. unfortunate events
 - 3. unfortunately event
 - 4. No improvement

Question Type : MCQ
Question ID : 264330134724
Option 1 ID : 264330527853
Option 2 ID : 264330527851
Option 3 ID : 264330527852
Option 4 ID : 264330527854
Status : Answered
Chosen Option : 2

Q.3 Select the most appropriate synonym to substitute the bracketed word in the given sentence.

They have also tested fully (autonomous) landings and semi-autonomous take-offs for the gas-powered rotorcraft.

Ans ✓ 1. Independent

✗ 2. Unanimous

✗ 3. Obstruct

✗ 4. Occlude

Question Type : **MCQ**

Question ID : **264330136230**

Option 1 ID : **264330533710**

Option 2 ID : **264330533708**

Option 3 ID : **264330533707**

Option 4 ID : **264330533709**

Status : **Answered**

Chosen Option : **1**

Q.4 In the following question, out of the given four alternatives, select the alternative which best expresses the meaning of the Idiom/Phrase.

Get the ball rolling

Ans ✓ 1. Set an activity in motion

✗ 2. Behave in a crazy manner

✗ 3. Get everyone's vote

✗ 4. Collect one's belongings

Question Type : **MCQ**

Question ID : **264330136789**

Option 1 ID : **264330535855**

Option 2 ID : **264330535857**

Option 3 ID : **264330535856**

Option 4 ID : **264330535858**

Status : **Answered**

Chosen Option : **1**

Q.5 Select the most appropriate antonym of the given word.

Administer

Ans ✗ 1. Entertaining

✓ 2. Forego

✗ 3. Pictural

✗ 4. Steady

Question Type : **MCQ**

Question ID : **264330136631**

Option 1 ID : **264330535248**

Option 2 ID : **264330535249**

Option 3 ID : **264330535250**

Option 4 ID : **264330535247**

Status : **Not Answered**

Chosen Option : **--**

Q.6 Identify the segment that contains a grammatical error. If there is no error, select 'No error'

Do not be put of by the/ mathematical equation, because/ this is really not very complicated.

- Ans**
- 1. mathematical equation, because
 - 2. No error
 - 3. Do not be put of by the
 - 4. this is really not very complicated.

Question Type : **MCQ**
Question ID : **264330136213**
Option 1 ID : **264330533644**
Option 2 ID : **264330533646**
Option 3 ID : **264330533643**
Option 4 ID : **264330533645**
Status : **Answered**
Chosen Option : **3**

Q.7 Choose the word that can substitute the given group of words.
A man who is womanish in his habits

- Ans**
- 1. Henpecked
 - 2. Fastidious
 - 3. Stoic
 - 4. Effeminate

Question Type : **MCQ**
Question ID : **264330134543**
Option 1 ID : **264330527128**
Option 2 ID : **264330527127**
Option 3 ID : **264330527130**
Option 4 ID : **264330527129**
Status : **Answered**
Chosen Option : **4**

Q.8 Select the appropriate synonym for the underlined word.
They have no reason to trust you.

- Ans**
- 1. believe
 - 2. doubt
 - 3. dispute
 - 4. condemn

Question Type : **MCQ**
Question ID : **264330134544**
Option 1 ID : **264330527132**
Option 2 ID : **264330527134**
Option 3 ID : **264330527133**
Option 4 ID : **264330527131**
Status : **Answered**
Chosen Option : **1**

Q.9 Find the part of the given sentence that has an error in it. If there is no error, choose 'No error'.

All of the farmers I interviewed shared three things on common.

- Ans**
- 1. All of the farmers I
 - 2. things on common.
 - 3. No error
 - 4. interviewed shared three

Question Type : **MCQ**

Question ID : **264330135179**

Option 1 ID : **264330529647**

Option 2 ID : **264330529649**

Option 3 ID : **264330529650**

Option 4 ID : **264330529648**

Status : **Answered**

Chosen Option : **2**

Q.10 Select the most appropriate option to fill in the blank.

Without vision, the process of conceptualisation can become _____ task for any individual.

- Ans**
- 1. a gregarious
 - 2. an onerous
 - 3. a contrarious
 - 4. a lively

Question Type : **MCQ**

Question ID : **264330136107**

Option 1 ID : **264330533235**

Option 2 ID : **264330533238**

Option 3 ID : **264330533237**

Option 4 ID : **264330533236**

Status : **Not Answered**

Chosen Option : **--**

Q.11 Select the most appropriate option to fill in the blank.

Although she has used the typewriter since she was eleven years old, she is rather _____ than rapid.

- Ans**
- 1. heedless
 - 2. hasty
 - 3. energetic
 - 4. careful

Question Type : **MCQ**

Question ID : **264330134553**

Option 1 ID : **264330527169**

Option 2 ID : **264330527168**

Option 3 ID : **264330527167**

Option 4 ID : **264330527170**

Status : **Answered**

Chosen Option : **4**

Q.12 Improve the underlined part of the sentence. Choose 'No improvement' as an answer if the sentence is grammatically correct.
Your parcel should arrived at three days.

- Ans
- 1. arrive in third
 - 2. arrive in the third
 - 3. arrive in three
 - 4. No improvement

Question Type : **MCQ**
Question ID : **264330134402**
Option 1 ID : **264330526587**
Option 2 ID : **264330526588**
Option 3 ID : **264330526589**
Option 4 ID : **264330526590**
Status : **Answered**
Chosen Option : **3**

Q.13 Fill in the blank with the most appropriate option.
Earlier I'd thought that it was for my sake, but then I learnt _____ Arjun the power to resist her.

- Ans
- 1. what has gave
 - 2. what gives
 - 3. what gave
 - 4. what give

Question Type : **MCQ**
Question ID : **264330136246**
Option 1 ID : **264330533774**
Option 2 ID : **264330533772**
Option 3 ID : **264330533773**
Option 4 ID : **264330533771**
Status : **Answered**
Chosen Option : **3**

Q.14 Select the most appropriate option to substitute the bracketed segment in the given sentence. If there is no need to substitute it, select 'no substitution required'.

(I wouldn't date him if I was you), he doesn't seem like a good person.

- Ans
- 1. No substitution required
 - 2. I will not date him if I were you, not
 - 3. I wouldn't has dated him if I were you,
 - 4. I wouldn't have dated him if I were you,

Question Type : **MCQ**
Question ID : **264330136216**
Option 1 ID : **264330533658**
Option 2 ID : **264330533657**
Option 3 ID : **264330533656**
Option 4 ID : **264330533655**
Status : **Answered**
Chosen Option : **4**

Q.15 A sentence has been given with a blank to be filled with an appropriate option. Choose the correct alternative.

The victim was _____ in the back of his head.

- Ans 1. shot
 2. shooted
 3. shoot
 4. shooting

Question Type : MCQ

Question ID : 264330134534

Option 1 ID : 264330527098

Option 2 ID : 264330527095

Option 3 ID : 264330527097

Option 4 ID : 264330527096

Status : Answered

Chosen Option : 1

Q.16 Choose the incorrectly spelt word.

- Ans 1. Friying
 2. Addition
 3. Hazard
 4. Common

Question Type : MCQ

Question ID : 264330134550

Option 1 ID : 264330527158

Option 2 ID : 264330527156

Option 3 ID : 264330527157

Option 4 ID : 264330527155

Status : Answered

Chosen Option : 1

Q.17 Select the appropriate antonym for the underlined word.
Sam was looking gloomy and downcast, and Meg in tears.

- Ans 1. sullen
 2. plain
 3. buoyant
 4. morose

Question Type : MCQ

Question ID : 264330134547

Option 1 ID : 264330527146

Option 2 ID : 264330527144

Option 3 ID : 264330527143

Option 4 ID : 264330527145

Status : Answered

Chosen Option : 3

Q.18 Select the wrongly spelt word.

- Ans
- 1. Enclosed
 - 2. Sizeable
 - 3. Disgusting
 - 4. Contradictory

Question Type : MCQ
Question ID : 264330136106
Option 1 ID : 264330533233
Option 2 ID : 264330533232
Option 3 ID : 264330533231
Option 4 ID : 264330533234
Status : Answered
Chosen Option : 3

Q.19 Find the part of the given sentence that has an error in it. If there is no error, choose 'No error'.

You will get a discount on this products, if you buy one more outfit.

- Ans
- 1. you buy one more outfit.
 - 2. No error
 - 3. You will get a discount
 - 4. on this products, if

Question Type : MCQ
Question ID : 264330134530
Option 1 ID : 264330527081
Option 2 ID : 264330527082
Option 3 ID : 264330527079
Option 4 ID : 264330527080
Status : Answered
Chosen Option : 4

Q.20 Choose the word that can substitute the given group of words.

A circular house made of blocks of hard snow

- Ans
- 1. Igloo
 - 2. Hut
 - 3. Nest
 - 4. Hutch

Question Type : MCQ
Question ID : 264330136783
Option 1 ID : 264330535831
Option 2 ID : 264330535832
Option 3 ID : 264330535833
Option 4 ID : 264330535834
Status : Answered
Chosen Option : 1

Comprehension:

In the following passage some words have been deleted. Fill in the blanks with the help of the alternatives given. Select the most appropriate option for each number.

It was this (1) _____ that made John so particularly unusual, even for a wizard. This scar was (2) _____ hint of John's very mysterious past, of the reason (3) _____ the Samuel's doorstep eleven years (4) _____. At the age of one, John (5) _____ a curse from the greatest Dark sorcerer of all time.

SubQuestion No : 21

Q.21 Select the most appropriate option to fill in blank number 1.

- Ans**
- 1. defect
 - 2. scar
 - 3. blister
 - 4. scab

Question Type : **MCQ**

Question ID : **264330136622**

Option 1 ID : **264330535211**

Option 2 ID : **264330535213**

Option 3 ID : **264330535212**

Option 4 ID : **264330535214**

Status : **Answered**

Chosen Option : **2**

Comprehension:

In the following passage some words have been deleted. Fill in the blanks with the help of the alternatives given. Select the most appropriate option for each number.

It was this (1) _____ that made John so particularly unusual, even for a wizard. This scar was (2) _____ hint of John's very mysterious past, of the reason (3) _____ the Samuel's doorstep eleven years (4) _____. At the age of one, John (5) _____ a curse from the greatest Dark sorcerer of all time.

SubQuestion No : 22

Q.22 Select the most appropriate option to fill in blank number 2.

- Ans**
- 1. the only
 - 2. the alone
 - 3. that only
 - 4. that individual

Question Type : **MCQ**

Question ID : **264330136623**

Option 1 ID : **264330535215**

Option 2 ID : **264330535218**

Option 3 ID : **264330535216**

Option 4 ID : **264330535217**

Status : **Answered**

Chosen Option : **1**

Comprehension:

In the following passage some words have been deleted. Fill in the blanks with the help of the alternatives given. Select the most appropriate option for each number.

It was this (1) _____ that made John so particularly unusual, even for a wizard. This scar was (2) _____ hint of John's very mysterious past, of the reason (3) _____ the Samuel's doorstep eleven years (4) _____. At the age of one, John (5) _____ a curse from the greatest Dark sorcerer of all time.

SubQuestion No : 23

Q.23 Select the most appropriate option to fill in blank number 3.

- Ans**
- 1. he had been left up
 - 2. he have been left on
 - 3. he was been left in
 - 4. he had been left on

Question Type : **MCQ**
Question ID : **264330136624**
Option 1 ID : **264330535219**
Option 2 ID : **264330535220**
Option 3 ID : **264330535222**
Option 4 ID : **264330535221**
Status : **Answered**
Chosen Option : **4**

Comprehension:

In the following passage some words have been deleted. Fill in the blanks with the help of the alternatives given. Select the most appropriate option for each number.

It was this (1) _____ that made John so particularly unusual, even for a wizard. This scar was (2) _____ hint of John's very mysterious past, of the reason (3) _____ the Samuel's doorstep eleven years (4) _____. At the age of one, John (5) _____ a curse from the greatest Dark sorcerer of all time.

SubQuestion No : 24

Q.24 Select the most appropriate option to fill in blank number 4.

- Ans**
- 1. sooner
 - 2. before
 - 3. prior
 - 4. ago

Question Type : **MCQ**
Question ID : **264330136625**
Option 1 ID : **264330535223**
Option 2 ID : **264330535225**
Option 3 ID : **264330535224**
Option 4 ID : **264330535226**
Status : **Answered**
Chosen Option : **4**

Comprehension:

In the following passage some words have been deleted. Fill in the blanks with the help of the alternatives given. Select the most appropriate option for each number.

It was this (1) _____ that made John so particularly unusual, even for a wizard. This scar was (2) _____ hint of John's very mysterious past, of the reason (3) _____ the Samuel's doorstep eleven years (4) _____. At the age of one, John (5) _____ a curse from the greatest Dark sorcerer of all time.

SubQuestion No : 25

Q.25 Select the most appropriate option to fill in blank number 5.

- Ans**
- 1. have somehow survived
 - 2. had somehow survived
 - 3. had somehow existed through
 - 4. has had someway survived

Question Type : **MCQ**

Question ID : **264330136626**

Option 1 ID : **264330535229**

Option 2 ID : **264330535228**

Option 3 ID : **264330535227**

Option 4 ID : **264330535230**

Status : **Answered**

Chosen Option : **2**

Multi Tasking Non Technical Staff and Havaladar CBIC and CBN Examination 2022

Roll Number	KD Job Updates
Candidate Name	KD Job Updates
Venue Name	R K Digital Computer Centre 2
Exam Date	19/05/2023
Exam Time	9:00 AM - 10:30 AM
Subject	MTS Non Tech Havaladar CBIC and CBN Examination 2022

Section : Numerical and Mathematical Ability

Q.1 Rs.56,000 की धनराशि पर दो वर्षों के लिए 15% वार्षिक दर पर चक्रवृद्धि ब्याज (वार्षिक रूप से संयोजित) और साधारण ब्याज के बीच अंतर ज्ञात कीजिए।

- Ans
- 1. Rs. 1300
 - 2. Rs. 1260
 - 3. Rs. 1100
 - 4. Rs. 2410

Question Type : MCQ
Question ID : 264330133767
Option 1 ID : 264330524092
Option 2 ID : 264330524091
Option 3 ID : 264330524094
Option 4 ID : 264330524093
Status : Answered
Chosen Option : 2

Q.2 दो संख्याओं का गुणनफल 38025 है और उनका महत्तम समापवर्तक 65 है। इन संख्याओं का लघुत्तम समापवर्तक क्या है?

- Ans
- 1. 435
 - 2. 455
 - 3. 585
 - 4. 715

Question Type : MCQ
Question ID : 264330137338
Option 1 ID : 264330537982
Option 2 ID : 264330537980
Option 3 ID : 264330537981
Option 4 ID : 264330537979
Status : Answered
Chosen Option : 3

Q.3 एक कार्यालय में 70% कर्मचारी पुरुष हैं, 70% पुरुषों और 30% महिलाओं ने अनुज को मत दिया। अनुज को मत देने वाले लोगों का प्रतिशत ज्ञात कीजिए।

- Ans
- 1. 52%
 - 2. 56%
 - 3. 54%
 - 4. 58%

Question Type : MCQ
Question ID : 264330133760
Option 1 ID : 264330524066
Option 2 ID : 264330524063
Option 3 ID : 264330524064
Option 4 ID : 264330524065
Status : Answered
Chosen Option : 4

Q.4 A अकेले किसी कार्य को 16 दिनों में पूरा कर सकता है और B अकेले उसी कार्य को 96 दिनों में पूरा कर सकता है। A और B दोनों मिलकर इसी कार्य को कितने दिनों में पूरा कर सकते हैं?

- Ans
- 1. 88/13 दिन
 - 2. 96/7 दिन
 - 3. 96/13 दिन
 - 4. 88/14 दिन

Question Type : MCQ
Question ID : 264330135145
Option 1 ID : 264330529517
Option 2 ID : 264330529515
Option 3 ID : 264330529516
Option 4 ID : 264330529518
Status : Answered
Chosen Option : 2

Q.5 एक व्यक्ति एक कार को 8 प्रतिशत के बड़े पर बेचता है। यदि वह 4 प्रतिशत का बड़ा देता है, तो उसे 8 प्रतिशत के बड़े की तुलना में Rs.7200 अधिक प्राप्त होते हैं। कार का अंकित मूल्य क्या है?

- Ans
- 1. Rs. 180000
 - 2. Rs. 160000
 - 3. Rs. 150000
 - 4. Rs. 110000

Question Type : MCQ
Question ID : 264330137334
Option 1 ID : 264330537964
Option 2 ID : 264330537965
Option 3 ID : 264330537963
Option 4 ID : 264330537966
Status : Answered
Chosen Option : 1

Q.6 मोहित और सुनील की वर्तमान आयु का अनुपात 4:5 है। मोहित, सुनील से 7 वर्ष छोटा है। 7 वर्षों के बाद मोहित की आयु और सुनील की आयु का अनुपात क्या होगा?

- Ans
- ✓ 1. 5 : 6
 - ✗ 2. 8 : 9
 - ✗ 3. 6 : 7
 - ✗ 4. 7 : 8

Question Type : MCQ

Question ID : 264330137330

Option 1 ID : 264330537950

Option 2 ID : 264330537949

Option 3 ID : 264330537947

Option 4 ID : 264330537948

Status : Answered

Chosen Option : 1

Q.7 दो स्टेशन L और M एक-दूसरे से 720 km की दूरी पर हैं। एक रेलगाड़ी L से M की ओर जाती है और उसी समय एक दूसरी रेलगाड़ी M से L की ओर जाती है। दोनों रेलगाड़ियाँ 24 घंटों के बाद मिलती हैं। यदि पहली रेलगाड़ी की चाल दूसरी रेलगाड़ी से 10 km/hr अधिक है, तो धीमी गति से चल रही रेलगाड़ी की चाल क्या है?

- Ans
- ✗ 1. 20 km/hr
 - ✓ 2. 10 km/hr
 - ✗ 3. 14 km/hr
 - ✗ 4. 16 km/hr

Question Type : MCQ

Question ID : 264330137323

Option 1 ID : 264330537922

Option 2 ID : 264330537921

Option 3 ID : 264330537920

Option 4 ID : 264330537919

Status : Answered

Chosen Option : 2

Q.8 यदि $(1/2)$ of 20 + $(1/4)$ of 28 - $(1/3)$ of x = 10, तो X का मान क्या है?

- Ans
- ✓ 1. 21
 - ✗ 2. 10
 - ✗ 3. 28
 - ✗ 4. 7

Question Type : MCQ

Question ID : 264330133628

Option 1 ID : 264330523535

Option 2 ID : 264330523537

Option 3 ID : 264330523538

Option 4 ID : 264330523536

Status : Answered

Chosen Option : 1

Q.9 एक घन का आयतन 2.197 cm^3 है। घन की भुजा ज्ञात कीजिए।

- Ans
- 1. 1.2 cm
 - 2. 1.1 cm
 - 3. 1.3 cm
 - 4. 1.4 cm

Question Type : MCQ

Question ID : 264330135149

Option 1 ID : 264330529534

Option 2 ID : 264330529533

Option 3 ID : 264330529532

Option 4 ID : 264330529531

Status : Answered

Chosen Option : 3

Q.10 अजय Rs. 7560 में एक स्कूटर खरीदता है और उसकी मरम्मत पर Rs. 540 खर्च करता है। वह इसे Rs. 9000 में बेच देता है। उसका लाभ प्रतिशत कितना है?

- Ans
- 1. 6.25%
 - 2. 11.11%
 - 3. 9.09%
 - 4. 8.33%

Question Type : MCQ

Question ID : 264330138375

Option 1 ID : 264330542109

Option 2 ID : 264330542107

Option 3 ID : 264330542108

Option 4 ID : 264330542110

Status : Answered

Chosen Option : 2

Q.11 एक थैले में 2 रुपए, 5 रुपए और 10 रुपए के सिक्कों के रूप में Rs.840 हैं। 2 रुपए, 5 रुपए और 10 रुपए के सिक्कों की संख्या 5 : 7 : 6 के अनुपात में है। थैले में सिक्कों की कुल संख्या कितनी है?

- Ans
- 1. 132
 - 2. 158
 - 3. 102
 - 4. 144

Question Type : MCQ

Question ID : 264330137331

Option 1 ID : 264330537951

Option 2 ID : 264330537952

Option 3 ID : 264330537953

Option 4 ID : 264330537954

Status : Answered

Chosen Option : 4

Q.12 एक रेलगाड़ी 85 km/hr की औसत चाल से चलती है। 1275 km की दूरी तय करने में रेलगाड़ी द्वारा लिया गया समय ज्ञात कीजिए।

- Ans
- 1. 14 घंटे
 - 2. 17 घंटे
 - 3. 15 घंटे
 - 4. 12 घंटे

Question Type : MCQ
Question ID : 264330135069
Option 1 ID : 264330529212
Option 2 ID : 264330529213
Option 3 ID : 264330529214
Option 4 ID : 264330529211
Status : Answered
Chosen Option : 3

Q.13 शिवम ने दो घड़ियाँ खरीदीं, पहली Rs.12000 में और दूसरी Rs.10000 में। उसने दोनों घड़ियों को बेच दिया, पहली को 10 प्रतिशत के लाभ पर और दूसरी को 10 प्रतिशत की हानि पर। उसे कुल कितना लाभ या हानि हुई?

- Ans
- 1. 0.909 प्रतिशत हानि
 - 2. 0.909 प्रतिशत लाभ
 - 3. 2.25 प्रतिशत लाभ
 - 4. 2.25 प्रतिशत हानि

Question Type : MCQ
Question ID : 264330137329
Option 1 ID : 264330537945
Option 2 ID : 264330537946
Option 3 ID : 264330537944
Option 4 ID : 264330537943
Status : Answered
Chosen Option : 3

Q.14 A और B मिलकर एक कार्य को 7.2 घंटों में पूरा कर सकते हैं। यदि B अकेले उसी कार्य को 18 घंटों में पूरा कर सकता है, तो A अकेले उस कार्य को कितने घंटों में कर सकता है?

- Ans
- 1. 18 घंटों में
 - 2. 10 घंटों में
 - 3. 12 घंटों में
 - 4. 15 घंटों में

Question Type : MCQ
Question ID : 264330138450
Option 1 ID : 264330542407
Option 2 ID : 264330542408
Option 3 ID : 264330542409
Option 4 ID : 264330542410
Status : Answered
Chosen Option : 3

Q.15 यदि एक बेलन का आयतन $5000 m^3$ है और इसकी त्रिज्या $10 m$ है, तो बेलन का अनुमानित वक्र पृष्ठीय क्षेत्रफल कितना है? ($\pi = 3.14$)

- Ans
- 1. $1024 m^2$
 - 2. $954 m^2$
 - 3. $1000 m^2$
 - 4. $968 m^2$

Question Type : MCQ

Question ID : 264330138455

Option 1 ID : 264330542428

Option 2 ID : 264330542430

Option 3 ID : 264330542427

Option 4 ID : 264330542429

Status : Answered

Chosen Option : 3

Q.16 Rs.14400 की राशि पर 12 महीनों के लिए 11% वार्षिक ब्याज दर पर साधारण ब्याज कितना है?

- Ans
- 1. Rs. 1440
 - 2. Rs. 1584
 - 3. Rs. 1331
 - 4. Rs. 1680

Question Type : MCQ

Question ID : 264330138047

Option 1 ID : 264330540796

Option 2 ID : 264330540795

Option 3 ID : 264330540797

Option 4 ID : 264330540798

Status : Answered

Chosen Option : 2

Q.17 दो संख्याएँ 9 : 7 के अनुपात में हैं। यदि उनका महत्तम समापवर्तक (HCF) 6 है, तो उनका लघुत्तम समापवर्त्य (LCM) ज्ञात कीजिए।

- Ans
- 1. 252
 - 2. 189
 - 3. 378
 - 4. 126

Question Type : MCQ

Question ID : 264330135414

Option 1 ID : 264330530566

Option 2 ID : 264330530565

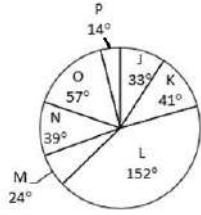
Option 3 ID : 264330530564

Option 4 ID : 264330530563

Status : Answered

Chosen Option : 3

Q.18 नीचे दिए गए वृत्त आलेख में 7 अलग-अलग कंपनियों की बिक्री को दर्शाया गया है। इन सभी 7 कंपनियों की कुल बिक्री 1080 है। एक कंपनी की बिक्री को इन सभी 7 कंपनियों की कुल बिक्री के सापेक्ष डिग्री में दर्शाया गया है।



J, L, M और N की कुल बिक्री और K, N, O और P की कुल बिक्री का अनुपात कितना है?

- Ans
- 1. 129 : 252
 - 2. 151 : 248
 - 3. 248 : 151
 - 4. 231 : 149

Question Type : MCQ

Question ID : 264330137342

Option 1 ID : 264330537998

Option 2 ID : 264330537995

Option 3 ID : 264330537997

Option 4 ID : 264330537996

Status : Answered

Chosen Option : 3

Q.19 निम्नलिखित तालिका में दिए गए वर्षों में एक कंपनी द्वारा किए गए वार्षिक व्यय को (लाख रुपये में) दर्शाया गया है। इन वर्षों में परिवहन (transport) पर किए गए कुल व्यय और वेतन (salary) पर किए गए कुल व्यय के बीच कितना अंतर है?

Year	Item of Expenditure			
	Fuel	Transport	Salary	Tax
2011	100	150	400	60
2012	92	140	380	64
2013	84	145	420	74
2014	102	155	450	78
2015	110	158	490	84

Year = वर्ष

Item of Expenditure = व्यय के प्रयोजन

Fuel = ईंधन, Transport = परिवहन, Salary = वेतन, Tax = कर

- Ans
- 1. Rs.2140 लाख
 - 2. Rs.748 लाख
 - 3. Rs.1392 लाख
 - 4. Rs.896 लाख

Question Type : MCQ

Question ID : 264330133642

Option 1 ID : 264330523593

Option 2 ID : 264330523594

Option 3 ID : 264330523591

Option 4 ID : 264330523592

Status : Answered

Chosen Option : 3

Q.20 A, B और C का औसत भार 40 kg है। यदि A और B का औसत भार 35 kg है और B और C का औसत भार 31 kg है, तो B का भार कितना है?

- Ans
- 1. 50 kg
 - 2. 24 kg
 - 3. 12 kg
 - 4. 36 kg

Question Type : MCQ
Question ID : 264330137324
Option 1 ID : 264330537924
Option 2 ID : 264330537926
Option 3 ID : 264330537923
Option 4 ID : 264330537925
Status : Answered
Chosen Option : 3

Section : Reasoning Ability and Problem Solving

Q.1 एक निश्चित कूट भाषा में, 'AGEING' को '1H23OH' लिखा जाता है। उस भाषा में 'UTOPIA' को कैसे लिखा जाएगा?

- Ans
- 1. 54UQ31
 - 2. 5U4R31
 - 3. 5S4R31
 - 4. 5U4Q31

Question Type : MCQ
Question ID : 264330134937
Option 1 ID : 264330528684
Option 2 ID : 264330528685
Option 3 ID : 264330528686
Option 4 ID : 264330528683
Status : Answered
Chosen Option : 4

Q.2 उस विकल्प को चुनिए जो तीसरी संख्या से ठीक उसी प्रकार संबंधित है जिस प्रकार दूसरी संख्या पहली संख्या से संबंधित है।
434 : 33 :: 125 : ?

- Ans
- 1. 21
 - 2. 27
 - 3. 24
 - 4. 30

Question Type : MCQ
Question ID : 264330133479
Option 1 ID : 264330522947
Option 2 ID : 264330522949
Option 3 ID : 264330522948
Option 4 ID : 264330522950
Status : Answered
Chosen Option : 3

Q.3 उस विकल्प को चुनिए जो पाँचवे पद से ठीक उसी प्रकार संबंधित है जिस प्रकार दूसरा पद पहले पद से संबंधित है और चौथा पद तीसरे पद से संबंधित है।

AF14 : FO28 :: RH13 : WQ27 :: LC26 : ?

- Ans
- 1. QM40
 - 2. QL40
 - 3. QL54
 - 4. QM54

Question Type : **MCQ**

Question ID : **264330137368**

Option 1 ID : **264330538101**

Option 2 ID : **264330538100**

Option 3 ID : **264330538102**

Option 4 ID : **264330538099**

Status : **Answered**

Chosen Option : **2**

Q.4 उस विकल्प को चुनिए जो पाँचवे पद से ठीक उसी प्रकार संबंधित है जिस प्रकार दूसरा पद पहले पद से संबंधित है और चौथा पद तीसरे पद से संबंधित है।

NP3 : PS27 :: AQ4 : CT64 :: FE5 : ?

- Ans
- 1. HH125
 - 2. II125
 - 3. HI125
 - 4. IH125

Question Type : **MCQ**

Question ID : **264330137367**

Option 1 ID : **264330538097**

Option 2 ID : **264330538095**

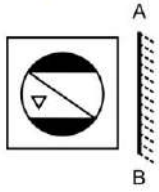
Option 3 ID : **264330538098**

Option 4 ID : **264330538096**

Status : **Answered**

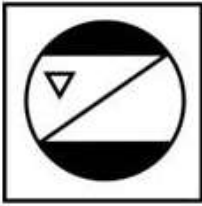
Chosen Option : **1**

Q.5 दी गई आकृति के उस सही दर्पण प्रतिबिंब को चुनिए, जो नीचे दर्शाए गए अनुसार दर्पण को AB पर रखने पर बनेगा।



Ans


✗ 1.



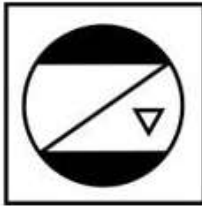
✗ 2.



✗ 3.



✓ 4.



Question Type : MCQ

Question ID : 264330133384

Option 1 ID : 264330522567

Option 2 ID : 264330522570

Option 3 ID : 264330522568

Option 4 ID : 264330522569

Status : Answered

Chosen Option : 4

Q.6 निम्नलिखित प्रश्न में, दी गई श्रृंखला में लुप्त संख्या को चुनिए ।

36, 73, 147, 295, 591, ?

Ans 1. 1163

2. 1188

3. 1197

4. 1183

Question Type : MCQ

Question ID : 264330137379

Option 1 ID : 264330538146

Option 2 ID : 264330538144

Option 3 ID : 264330538145

Option 4 ID : 264330538143

Status : Answered

Chosen Option : 4

Q.7 एक श्रृंखला दी गई है जिसमें एक पद लुप्त है। दिए गए विकल्पों में से उस सही विकल्प को चुनिए जो श्रृंखला को पूरा करेगा।

RAQ, TCS, VEU, ?, ZIY

Ans 1. XGX

2. XHX

3. XGW

4. XHW

Question Type : MCQ

Question ID : 264330137365

Option 1 ID : 264330538089

Option 2 ID : 264330538090

Option 3 ID : 264330538087

Option 4 ID : 264330538088

Status : Answered

Chosen Option : 3

Q.8 यदि A का अर्थ 'जोड़', B का अर्थ 'गुणा', C का अर्थ 'घटाव' और D का अर्थ 'भाग' हो, तो निम्नलिखित समीकरण का मान क्या होगा?

15 C 9 A 7 B 2 = ?

Ans 1. 15

2. 36

3. 20

4. 45

Question Type : MCQ

Question ID : 264330137848

Option 1 ID : 264330540002

Option 2 ID : 264330540001

Option 3 ID : 264330540000

Option 4 ID : 264330539999

Status : Answered

Chosen Option : 3

Q.9 आठ खिलाड़ी अनिल, कमल, राम, संजय, आकाश, विवेक, राहुल और रामू एक वृत्ताकार मेज के चारों ओर केंद्र की ओर मुख करके बैठे हैं (परंतु जरूरी नहीं कि वे इसी क्रम में बैठे हों)। संजय, अनिल के बाईं ओर से दूसरे स्थान पर है। राहुल, अनिल के दाईं ओर से चौथे स्थान पर है। राम, राहुल या संजय का निकटतम पड़ोसी नहीं है। आकाश, राम के दाईं ओर से दूसरे स्थान पर है। कमल, विवेक के दाईं ओर से दूसरे स्थान पर है। रामू के दाईं ओर से तीसरे स्थान पर कौन है?

- Ans**
- 1. कमल
 - 2. संजय
 - 3. विवेक
 - 4. राहुल

Question Type : **MCQ**

Question ID : **264330137373**

Option 1 ID : **264330538119**

Option 2 ID : **264330538121**

Option 3 ID : **264330538120**

Option 4 ID : **264330538122**

Status : **Answered**

Chosen Option : **3**

Q.10 उस विकल्प को चुनिए जिसमें समुच्चय की संख्याएँ वही संबंध साझा करती हैं जो दिए गए समुच्चय में संख्याओं द्वारा साझा किया जाता है। (ध्यान दें: संख्याओं को उनके घटक अंकों में अलग-अलग किए बिना, पूर्ण संख्याओं पर संक्रियाएँ की जानी चाहिए। उदा. 13 - 13 पर संक्रियाएँ जैसे 13 को जोड़ना /घटाना /गुणा करना आदि किया जा सकता है। 13 को 1 और 3 में अलग-अलग करने की और फिर 1 और 3 पर गणितीय संक्रियाएँ करने की अनुमति नहीं है)

(15, 25, 35)

(45, 55, 65)

- Ans**
- 1. (55, 60, 70)
 - 2. (45, 55, 70)
 - 3. (55, 75, 85)
 - 4. (55, 65, 75)

Question Type : **MCQ**

Question ID : **264330137381**

Option 1 ID : **264330538151**

Option 2 ID : **264330538153**

Option 3 ID : **264330538152**

Option 4 ID : **264330538154**

Status : **Answered**

Chosen Option : **4**

Q.11 एक निश्चित कूट भाषा में, 'SOWHF' को 'PLTEC' लिखा जाता है। उस भाषा में 'TQMGD' को कैसे लिखा जाएगा?

- Ans**
- 1. QNJDA
 - 2. QNDJD
 - 3. QNJDE
 - 4. QJNDD

Question Type : **MCQ**

Question ID : **264330133531**

Option 1 ID : **264330523156**

Option 2 ID : **264330523157**

Option 3 ID : **264330523155**

Option 4 ID : **264330523158**


Status : **Answered**


Chosen Option : **1**


Q.12 दिए गए दो चिन्हों को आपस में बदलने पर दिए गए समीकरण का मान क्या होगा?

× और ÷ ; $68 \times 17 + 34 \div 2 - 18$

Ans  1. 54

 2. 46

 3. 35

 4. 60

Question Type : **MCQ**

Question ID : **264330137382**

Option 1 ID : **264330538155**

Option 2 ID : **264330538157**

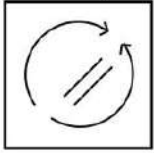
Option 3 ID : **264330538158**

Option 4 ID : **264330538156**

Status : **Answered**

Chosen Option : **1**

Q.13 Select the option figure in which the given figure (X) is embedded as its part (rotation is NOT allowed).



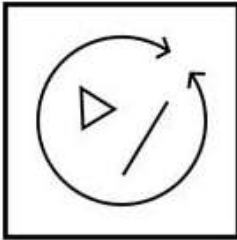
X

Ans

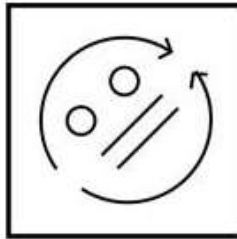
✗ 1.



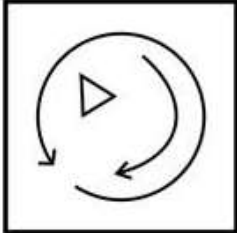
✗ 2.



✓ 3.



✗ 4.



Question Type : **MCQ**

Question ID : **264330133383**

Option 1 ID : **264330522564**

Option 2 ID : **264330522563**

Option 3 ID : **264330522566**

Option 4 ID : **264330522565**

Status : **Answered**

Chosen Option : **3**

Q.14 पाँच लड़कियाँ मानसी, काजल, ऋतु , टीना और रिया के अंकों की तुलना की जाती हैं। रिया के अंक मानसी से कम लेकिन टीना से अधिक हैं। ऋतु के अंक टीना, रिया और मानसी से कम हैं। काजल के अंक ऋतु से कम हैं। कितनी लड़कियाँ के अंक टीना के अंकों से कम हैं?

Ans  1. 2

 2. 1

 3. 4

 4. 3

Question Type : **MCQ**

Question ID : **264330137375**

Option 1 ID : **264330538130**

Option 2 ID : **264330538129**


Option 3 ID : **264330538128**

Option 4 ID : **264330538127**

Status : **Answered**

Chosen Option : **1**

Q.15 कौन-सी उत्तर आकृति प्रश्न आकृति में दिए गए पैटर्न को पूरा करेगी?



Ans

✗ 1.




✗ 2.



✗ 3.



✓ 4.



Question Type : MCQ

Question ID : 264330137386

Option 1 ID : 264330538172

Option 2 ID : 264330538173

Option 3 ID : 264330538174

Option 4 ID : 264330538171

Status : Answered

Chosen Option : 4

Q.16 एक निश्चित कूट भाषा में, 'HED' को '160' लिखा जाता है, 'FBG' को '84' लिखा जाता है। उस कूट भाषा में 'BEJ' को कैसे लिखा जाएगा?

- Ans
- 1. 80
 - 2. 60
 - 3. 120
 - 4. 100

Question Type : MCQ

Question ID : 264330137520

Option 1 ID : 264330538689

Option 2 ID : 264330538688

Option 3 ID : 264330538687

Option 4 ID : 264330538690

Status : Answered

Chosen Option : 4

Q.17 दी गई श्रृंखला में निम्नलिखित में से कौन-सी संख्या प्रश्न चिन्ह (?) के स्थान पर आएगी?
59, 63, 71, 83, 99, ?

- Ans
- 1. 117
 - 2. 118
 - 3. 119
 - 4. 121

Question Type : MCQ

Question ID : 264330133477

Option 1 ID : 264330522939

Option 2 ID : 264330522942

Option 3 ID : 264330522940

Option 4 ID : 264330522941

Status : Answered

Chosen Option : 3

Q.18 निम्नलिखित प्रश्न में कुछ कथन दिए गए हैं और उन कथनों के आधार पर कुछ निष्कर्ष दिए गए हैं। आपको यह मानना है कि दिए गए कथन सत्य हैं चाहे वे सामान्यतः ज्ञात तथ्यों से अलग प्रतीत होते हों। सभी निष्कर्षों को पढ़िए और फिर निश्चय कीजिए कि दिए गए निष्कर्षों में से कौन-सा निष्कर्ष तार्किक रूप से दिए गए कथनों के अनुसार है।

कथन:

- I. सभी S, F हैं।
- II. कुछ S, H हैं।

निष्कर्ष:

- I. कुछ F, S नहीं हैं।
- II. कुछ H, S हैं।

Ans

1. केवल निष्कर्ष I कथनों के अनुसार है
2. दोनों निष्कर्ष I और II कथनों के अनुसार हैं
3. कोई भी निष्कर्ष कथनों के अनुसार नहीं है
4. केवल निष्कर्ष II कथनों के अनुसार है

Question Type : MCQ

Question ID : 264330137376

Option 1 ID : 264330538131

Option 2 ID : 264330538133

Option 3 ID : 264330538134

Option 4 ID : 264330538132

Status : Answered

Chosen Option : 4

Q.19 आठ लड़के अनिल, कमल, राम, संजय, आकाश, विवेक, राहुल और रामू एक वृत्ताकार मेज के चारों ओर केंद्र के विपरीत दिशा में मुख करके बैठे हैं (परंतु जरूरी नहीं कि वे इसी क्रम में बैठें हों)। राम, रामू और अनिल दोनों का निकटतम पड़ोसी है। संजय, रामू के दाईं ओर से तीसरे स्थान पर है। रामू, अनिल के दाईं ओर से दूसरे स्थान पर है। राम, कमल के बाईं ओर से दूसरे स्थान पर है। विवेक, अनिल का निकटतम पड़ोसी नहीं है। आकाश, रामू के दाईं ओर से दूसरे स्थान पर है। विवेक के दाईं ओर से दूसरे स्थान पर कौन है?

Ans

1. आकाश
2. संजय
3. राहुल
4. अनिल

Question Type : MCQ

Question ID : 264330137374

Option 1 ID : 264330538125

Option 2 ID : 264330538123

Option 3 ID : 264330538124

Option 4 ID : 264330538126

Status : Answered

Chosen Option : 4

Q.20 निम्नलिखित प्रश्न में कुछ कथन दिए गए हैं और उन कथनों के आधार पर कुछ निष्कर्ष दिए गए हैं। आपको यह मानना है कि दिए गए कथन सत्य हैं चाहे वे सामान्यतः ज्ञात तथ्यों से अलग प्रतीत होते हों। सभी निष्कर्षों को पढ़िए और फिर निश्चय कीजिए कि दिए गए निष्कर्षों में से कौन-सा निष्कर्ष तार्किक रूप से दिए गए कथनों के अनुसार है।

कथन:

I. कुछ M, N हैं।

II कोई J, N नहीं है।

निष्कर्ष:

I. कोई N, J नहीं है।

II कुछ N, M हैं।

III सभी J, M हैं।

Ans 1. दोनों निष्कर्ष I और III कथनों के अनुसार हैं

2. दोनों निष्कर्ष II और III कथनों के अनुसार हैं

3. दोनों निष्कर्ष I और II कथनों के अनुसार हैं

4. केवल निष्कर्ष II कथनों के अनुसार है

Question Type : **MCQ**

Question ID : **264330137377**

Option 1 ID : **264330538138**

Option 2 ID : **264330538136**

Option 3 ID : **264330538137**

Option 4 ID : **264330538135**

Status : **Answered**

Chosen Option : 1

Section : **General Awareness**

Q.1 असद अली ख़ाँ एक भारतीय संगीतकार थे जो _____ के वादक थे।

Ans 1. सितार

2. संतूर

3. रुद्र वीणा

4. बाँसुरी

Question Type : **MCQ**

Question ID : **264330137393**

Option 1 ID : **264330538201**

Option 2 ID : **264330538202**

Option 3 ID : **264330538199**

Option 4 ID : **264330538200**

Status : **Answered**

Chosen Option : 2

Q.2 निम्नलिखित में से किसे व्यापक रूप से संगीत, नाट्य प्रदर्शन, भाषा और 'सत्रिया' नृत्य के नए रूपों को पेश करने का श्रेय दिया जाता है?

- Ans
- 1. उदय शंकर (Uday Shankar)
 - 2. शोवना नारायण (Shovana Narayan)
 - 3. श्रीमंत शंकरदेव (Srimanta Sankardev)
 - 4. पद्मा सुब्रह्मण्यम (Padma Subrahmanyam)

Question Type : MCQ
Question ID : 264330134025
Option 1 ID : 264330525126
Option 2 ID : 264330525124
Option 3 ID : 264330525123
Option 4 ID : 264330525125
Status : Answered
Chosen Option : 3

Q.3 2022 में लोकसभा में पारित कौन-सा विधेयक भारत के एक राज्य /केंद्र शासित प्रदेश के तीन नगर निगमों के एकीकरण से संबंधित है?

- Ans
- 1. दिल्ली नगर निगम (संशोधन) विधेयक
 - 2. कर्नाटक नगर निगम (संशोधन) विधेयक
 - 3. पुडुचेरी नगर निगम (संशोधन) विधेयक
 - 4. चंडीगढ़ नगर निगम (संशोधन) विधेयक

Question Type : MCQ
Question ID : 264330137945
Option 1 ID : 264330540387
Option 2 ID : 264330540389
Option 3 ID : 264330540388
Option 4 ID : 264330540390
Status : Answered
Chosen Option : 1

Q.4 "मेजर ध्यानचंद खेल रत्न पुरस्कार 2021" जीतने वाले एकमात्र क्रिकेट खिलाड़ी कौन हैं?

- Ans
- 1. विराट कोहली
 - 2. रोहित शर्मा
 - 3. हरमनप्रीत कौर
 - 4. मिताली राज

Question Type : MCQ
Question ID : 264330137390
Option 1 ID : 264330538188
Option 2 ID : 264330538187
Option 3 ID : 264330538190
Option 4 ID : 264330538189
Status : Answered
Chosen Option : 4

Q.5 Which among the following is a public sector bank?

- Ans
- 1. Yes Bank
 - 2. ICICI Bank
 - 3. Bank of Baroda
 - 4. Axis Bank

Question Type : MCQ

Question ID : 264330134030

Option 1 ID : 264330525146

Option 2 ID : 264330525145

Option 3 ID : 264330525143

Option 4 ID : 264330525144

Status : Not Answered

Chosen Option : --

Q.6 निम्नलिखित में से किस अवधि को भारत में जनसंख्या विस्फोट की अवधि के रूप में जाना जाता है?

- Ans
- 1. वर्ष 1951 - 1981
 - 2. वर्ष 1921 - 1951
 - 3. वर्ष 1901 - 1921
 - 4. वर्ष 1981 के बाद से अब तक

Question Type : MCQ

Question ID : 264330138265

Option 1 ID : 264330541669

Option 2 ID : 264330541668

Option 3 ID : 264330541667

Option 4 ID : 264330541670

Status : Answered

Chosen Option : 2

Q.7 पृथ्वी पर सबसे बड़ा महासागर _____ है।

- Ans
- 1. अटलांटिक महासागर
 - 2. हिंद महासागर
 - 3. प्रशांत महासागर
 - 4. आर्कटिक महासागर

Question Type : MCQ

Question ID : 264330133939

Option 1 ID : 264330524779

Option 2 ID : 264330524782

Option 3 ID : 264330524780

Option 4 ID : 264330524781

Status : Answered

Chosen Option : 2

Q.8 फाइनेंशियल एक्शन टास्क फोर्स (FATF) ने अक्टूबर 2022 में किस देश को आतंकी वित्तपोषण और मनी लॉन्ड्रिंग पर वैश्विक निगरानी संस्था (global watchdog) की ग्रे सूची (grey list) से बाहर कर दिया है?

- Ans
- ✓ 1. पाकिस्तान
 - ✗ 2. चीन
 - ✗ 3. उत्तर कोरिया
 - ✗ 4. बांग्लादेश

Question Type : MCQ
Question ID : 264330137396
Option 1 ID : 264330538213
Option 2 ID : 264330538214
Option 3 ID : 264330538211
Option 4 ID : 264330538212
Status : Answered
Chosen Option : 1

Q.9 निम्नलिखित में से कौन-सा प्राचीन स्थल भारत में स्थित नहीं है?

- Ans
- ✗ 1. हल्लूर (Hallur)
 - ✓ 2. मेहरगढ़ (Mehrgarh)
 - ✗ 3. इनामगाँव (Inamgaon)
 - ✗ 4. हुँस्गी (Hunsgi)

Question Type : MCQ
Question ID : 264330133877
Option 1 ID : 264330524532
Option 2 ID : 264330524533
Option 3 ID : 264330524531
Option 4 ID : 264330524534
Status : Not Answered
Chosen Option : --

Q.10 निम्न में से कौन-सा देश भारत के साथ समुद्री सीमा रेखा साझा करता है?

- Ans
- ✓ 1. मालदीव
 - ✗ 2. पाकिस्तान
 - ✗ 3. फिलीपींस
 - ✗ 4. फ़िजी

Question Type : MCQ
Question ID : 264330133660
Option 1 ID : 264330523666
Option 2 ID : 264330523664
Option 3 ID : 264330523665
Option 4 ID : 264330523663
Status : Answered
Chosen Option : 1

Q.11 भारतीय संविधान का अनुच्छेद 40 _____ से संबंधित है।

- Ans
- 1. नागरिकों के लिए समान नागरिक संहिता
 - 2. ग्राम पंचायतों के संगठन
 - 3. जीवन संरक्षण
 - 4. धार्मिक मामलों के प्रबंधन की स्वतंत्रता

Question Type : MCQ
Question ID : 264330137399
Option 1 ID : 264330538224
Option 2 ID : 264330538223
Option 3 ID : 264330538225
Option 4 ID : 264330538226
Status : Answered
Chosen Option : 2

Q.12 क्षेत्रफल की दृष्टि से भारत विश्व का _____ सबसे बड़ा देश है।

- Ans
- 1. सातवाँ
 - 2. तीसरा
 - 3. नौवाँ
 - 4. छठा

Question Type : MCQ
Question ID : 264330137405
Option 1 ID : 264330538249
Option 2 ID : 264330538247
Option 3 ID : 264330538248
Option 4 ID : 264330538250
Status : Answered
Chosen Option : 1

Q.13 जब किसी वस्तु पर धनात्मक आवेश होता है तो इसका क्या अर्थ है?

- Ans
- 1. इसमें प्रोटॉन की तुलना में न्यूट्रॉन अधिक होते हैं
 - 2. इसमें इलेक्ट्रॉन की तुलना में प्रोटॉन अधिक होते हैं
 - 3. इसमें इलेक्ट्रॉन की तुलना में न्यूट्रॉन अधिक होते हैं
 - 4. इसमें प्रोटॉन की तुलना में इलेक्ट्रॉन अधिक होते हैं

Question Type : MCQ
Question ID : 264330133936
Option 1 ID : 264330524768
Option 2 ID : 264330524769
Option 3 ID : 264330524770
Option 4 ID : 264330524767
Status : Answered
Chosen Option : 2

Q.14 निम्नलिखित में से "फ्लड ऑफ फायर (Flood of Fire)" के लेखक कौन हैं?

- Ans
- 1. अमिताव घोष
 - 2. तरुण खन्ना
 - 3. ट्विंकल खन्ना
 - 4. अरुणिमा सिन्हा

Question Type : MCQ

Question ID : 264330134023

Option 1 ID : 264330525115

Option 2 ID : 264330525118

Option 3 ID : 264330525117

Option 4 ID : 264330525116

Status : Not Attempted and
Marked For Review

Chosen Option : --

Q.15 Which of the following is a tertiary consumer?

- Ans
- 1. Grasshopper
 - 2. Snake
 - 3. Grass
 - 4. Frog

Question Type : MCQ

Question ID : 264330133938

Option 1 ID : 264330524776

Option 2 ID : 264330524778

Option 3 ID : 264330524775

Option 4 ID : 264330524777

Status : Answered

Chosen Option : 2

Q.16 सूर्य का प्रकाश पर्याप्त मात्रा में न मिलने से किस विटामिन की कमी हो जाती है?

- Ans
- 1. विटामिन C
 - 2. विटामिन D
 - 3. विटामिन E और K
 - 4. विटामिन A

Question Type : MCQ

Question ID : 264330137400

Option 1 ID : 264330538228

Option 2 ID : 264330538230

Option 3 ID : 264330538229

Option 4 ID : 264330538227

Status : Answered

Chosen Option : 2

Q.17 लगभग 2000 साल पहले _____ कुषाणों की दूसरी राजधानी बनी।

Ans 1. मथुरा

2. मदुरै

3. पाटलिपुत्र

4. वैशाली

Question Type : MCQ

Question ID : 264330133945

Option 1 ID : 264330524803

Option 2 ID : 264330524804

Option 3 ID : 264330524806

Option 4 ID : 264330524805

Status : Answered

Chosen Option : 3

Q.18 मणिपुरी नृत्य का प्रमुख विषय _____ है।

Ans 1. भक्ति

2. देश प्रेम

3. युद्ध

4. वीरता

Question Type : MCQ

Question ID : 264330137387

Option 1 ID : 264330538177

Option 2 ID : 264330538175

Option 3 ID : 264330538176

Option 4 ID : 264330538178

Status : Answered

Chosen Option : 1

Q.19 मकर संक्रांति का त्योहार निम्नलिखित में से किस देवता को समर्पित है?

Ans 1. विष्णु

2. शिव

3. सूर्य

4. इंद्र

Question Type : MCQ

Question ID : 264330133857

Option 1 ID : 264330524452

Option 2 ID : 264330524451

Option 3 ID : 264330524454

Option 4 ID : 264330524453

Status : Answered

Chosen Option : 3

Q.20 ब्रिटिश संसद के किस अधिनियम को ईस्ट इंडिया कंपनी अधिनियम 1793 के नाम से भी जाना जाता था?

- Ans
- 1. रेगुलेटिंग एक्ट, 1793
 - 2. भारत सरकार अधिनियम, 1793
 - 3. भारतीय परिषद अधिनियम, 1793
 - 4. चार्टर अधिनियम, 1793

Question Type : MCQ
Question ID : 264330137959
Option 1 ID : 264330540446
Option 2 ID : 264330540445
Option 3 ID : 264330540444
Option 4 ID : 264330540443
Status : Answered
Chosen Option : 1

Q.21 साइमन कमीशन का उद्देश्य _____ था।

- Ans
- 1. भारत का आर्थिक भविष्य निर्धारित करना
 - 2. भारत का धार्मिक भविष्य निर्धारित करना
 - 3. भारत का शैक्षिक भविष्य निर्धारित करना
 - 4. भारत का राजनीतिक भविष्य निर्धारित करना

Question Type : MCQ
Question ID : 264330133880
Option 1 ID : 264330524543
Option 2 ID : 264330524546
Option 3 ID : 264330524545
Option 4 ID : 264330524544
Status : Answered
Chosen Option : 4

Q.22 बौद्ध वास्तुकला में, निम्नलिखित में से कौन-सा एक ध्यान कक्ष और भिक्षुओं के रहने का स्थान है?

- Ans
- 1. विहार (Viharas)
 - 2. स्तूप (Stupas)
 - 3. चैत्य गृह (Chaitya Grihas)
 - 4. पितरा-दूरा (Pietra dura)

Question Type : MCQ
Question ID : 264330137948
Option 1 ID : 264330540401
Option 2 ID : 264330540400
Option 3 ID : 264330540399
Option 4 ID : 264330540402
Status : Answered
Chosen Option : 2

Q.23 निम्नलिखित में से कौन भारत का एक प्रसिद्ध ट्रैक और फील्ड धावक है/था?

- Ans
- 1. महेश भूपति
 - 2. टी. सी. योहानन
 - 3. मिल्खा सिंह
 - 4. मेजर ध्यानचंद

Question Type : MCQ
Question ID : 264330133954
Option 1 ID : 264330524840
Option 2 ID : 264330524842
Option 3 ID : 264330524839
Option 4 ID : 264330524841
Status : Answered
Chosen Option : 3

Q.24 मोरमुगाओ (Mormugao) बंदरगाह निम्नलिखित में से किस राज्य में स्थित है?

- Ans
- 1. महाराष्ट्र
 - 2. तमिलनाडु
 - 3. गोवा
 - 4. पश्चिम बंगाल

Question Type : MCQ
Question ID : 264330134015
Option 1 ID : 264330525084
Option 2 ID : 264330525083
Option 3 ID : 264330525085
Option 4 ID : 264330525086
Status : Answered
Chosen Option : 3

Q.25 _____ ने 9 नवंबर 2022 को भारत के 50वें मुख्य न्यायाधीश के रूप में शपथ ली।

- Ans
- 1. न्यायमूर्ति डी.वाई. चंद्रचूड़
 - 2. न्यायमूर्ति एन. वी. रमना
 - 3. न्यायमूर्ति यू.यू. ललित
 - 4. न्यायमूर्ति रंजन गोगोई

Question Type : MCQ
Question ID : 264330137395
Option 1 ID : 264330538207
Option 2 ID : 264330538209
Option 3 ID : 264330538208
Option 4 ID : 264330538210
Status : Answered
Chosen Option : 1

Q.1 Identify the segment that contains a grammatical error. If there is no error, select 'No error'.
He consolidated control over all the / provinces of the Great Britain and some / of northern Gaul while Maximian dealt with other uprisings.

- Ans**
- 1. No Error
 - 2. provinces of the Great Britain and some
 - 3. He consolidated control over all the
 - 4. of northern Gaul while Maximian dealt with other uprisings.

Question Type : **MCQ**
Question ID : **264330135795**
Option 1 ID : **264330532058**
Option 2 ID : **264330532056**
Option 3 ID : **264330532055**
Option 4 ID : **264330532057**
Status : **Answered**
Chosen Option : **4**

Q.2 Select the most appropriate meaning of the bracketed idiom in the given sentence.
Did you know David went to school with my brother? It's (a small world), isn't it?

- Ans**
- 1. Meeting someone not expected to be at a certain place
 - 2. Overwhelmed by what is happening in the moment
 - 3. A two-person conflict where both people are at fault
 - 4. An aggressive and bold confrontation

Question Type : **MCQ**
Question ID : **264330135814**
Option 1 ID : **264330532127**
Option 2 ID : **264330532130**
Option 3 ID : **264330532128**
Option 4 ID : **264330532129**
Status : **Answered**
Chosen Option : **4**

Q.3 Identify the segment that contains a grammatical error. If there is no error, select 'No error'.
Police could not catch / the gunman as he ran off / so very fastly into the woods.

- Ans**
- 1. the gunman as he ran off
 - 2. No error
 - 3. Police could not catch
 - 4. so very fastly into the woods.

Question Type : **MCQ**
Question ID : **264330136613**
Option 1 ID : **264330535180**
Option 2 ID : **264330535182**
Option 3 ID : **264330535179**
Option 4 ID : **264330535181**
Status : **Answered**
Chosen Option : **4**

Q.4 Select the most appropriate option to fill in the blank.
The technical vocabulary and foreign words make this text a little more _____.

- Ans
- 1. stagnant
 - 2. feasible
 - 3. difficult
 - 4. futile

Question Type : **MCQ**
Question ID : **264330134344**
Option 1 ID : **264330526365**
Option 2 ID : **264330526366**
Option 3 ID : **264330526364**
Option 4 ID : **264330526363**
Status : **Answered**
Chosen Option : **3**

Q.5 Select the most appropriate antonym to substitute the (bracketed) word in the given sentence.
The negotiations have gotten nowhere, and I see no reason to (continue) with this pointless exercise.

- Ans
- 1. vivacious
 - 2. agitate
 - 3. halt
 - 4. coagulate

Question Type : **MCQ**
Question ID : **264330135812**
Option 1 ID : **264330532122**
Option 2 ID : **264330532119**
Option 3 ID : **264330532121**
Option 4 ID : **264330532120**
Status : **Answered**
Chosen Option : **3**

Q.6 Select the most appropriate option to substitute the bracketed segment in the given sentence. If there is no need to substitute it, select 'no substitution required'.
(Plots to dispose him came) to nothing.

- Ans
- 1. Plots to dispose of him came
 - 2. Plots which dispose him came
 - 3. Plots to dispose off him comes
 - 4. No substitution required

Question Type : **MCQ**
Question ID : **264330136036**
Option 1 ID : **264330532963**
Option 2 ID : **264330532965**
Option 3 ID : **264330532964**
Option 4 ID : **264330532966**
Status : **Answered**
Chosen Option : **1**

Q.7 Select the most appropriate option to fill in the blank.

If someone does not stop the political _____ in that country, a civil war is likely to break out soon.

- Ans**
- ✓ 1. rhetoric
 - ✗ 2. aleatoric
 - ✗ 3. historic
 - ✗ 4. anaphoric

Question Type : **MCQ**

Question ID : **264330135799**

Option 1 ID : **264330532074**

Option 2 ID : **264330532073**

Option 3 ID : **264330532072**

Option 4 ID : **264330532071**

Status : **Answered**

Chosen Option : **1**

Q.8 Select the most appropriate word for the given group of words.

The action or offence of speaking sacrilegiously about God or sacred things; profane talk

- Ans**
- ✓ 1. Blasphemy
 - ✗ 2. Ephemeral
 - ✗ 3. Crusade
 - ✗ 4. Extempore

Question Type : **MCQ**

Question ID : **264330135808**

Option 1 ID : **264330532103**

Option 2 ID : **264330532106**

Option 3 ID : **264330532104**

Option 4 ID : **264330532105**

Status : **Answered**

Chosen Option : **1**

Q.9 Fill in the blank with the most appropriate choice.

Hard to believe that these people can justify and _____ such sickening behaviour!

- Ans**
- ✗ 1. scandalize
 - ✓ 2. rationalize
 - ✗ 3. essentialize
 - ✗ 4. tantalize

Question Type : **MCQ**

Question ID : **264330135818**

Option 1 ID : **264330532144**

Option 2 ID : **264330532146**

Option 3 ID : **264330532145**

Option 4 ID : **264330532143**

Status : **Answered**

Chosen Option : **2**

Q.10 Choose the word that can substitute the given group of words.
The science of foretelling events by mapping stars

- Ans 1. Astrobiology
 2. Astrology
 3. Astrophysics
 4. Astronomy

Question Type : **MCQ**
Question ID : **264330134412**
Option 1 ID : **264330526626**
Option 2 ID : **264330526624**
Option 3 ID : **264330526625**
Option 4 ID : **264330526623**
Status : **Answered**
Chosen Option : **2**

Q.11 A sentence has been given with a blank to be filled with an appropriate option. Choose the correct alternative.
I was always greeted _____ wherever I went in the country.

- Ans 1. warm
 2. warmly
 3. warmth
 4. warming

Question Type : **MCQ**
Question ID : **264330134327**
Option 1 ID : **264330526300**
Option 2 ID : **264330526301**
Option 3 ID : **264330526299**
Option 4 ID : **264330526302**
Status : **Answered**
Chosen Option : **2**

Q.12 Find the part of the given sentence that has an error in it. If there is no error, choose 'No error'.

Fires in California is sounding alarm bells that cannot be ignored.

- Ans 1. that cannot be ignored.
 2. No error
 3. Fires in California is
 4. sounding alarm bells

Question Type : **MCQ**
Question ID : **264330134823**
Option 1 ID : **264330528233**
Option 2 ID : **264330528234**
Option 3 ID : **264330528231**
Option 4 ID : **264330528232**
Status : **Answered**
Chosen Option : **3**

Q.13 Choose the sentence with no spelling error.

- Ans** 1. Take it up, and write your own storry.
 2. Take it up, and wrrite your own story.
 3. Take it up, and writte your on story.
 4. Take it up, and write your own story.

Question Type : **MCQ**
Question ID : **264330134343**
Option 1 ID : **264330526362**
Option 2 ID : **264330526360**
Option 3 ID : **264330526361**
Option 4 ID : **264330526359**
Status : **Answered**
Chosen Option : **4**

Q.14 Choose the word that means the same as the given word.
Appropriate

- Ans** 1. Competent
 2. Polarize
 3. Gentle
 4. Informal

Question Type : **MCQ**
Question ID : **264330134363**
Option 1 ID : **264330526437**
Option 2 ID : **264330526438**
Option 3 ID : **264330526435**
Option 4 ID : **264330526436**
Status : **Answered**
Chosen Option : **1**

Q.15 Select the most appropriate synonym of the given word.

Contrite

- Ans** 1. persistent
 2. remorseful
 3. advertent
 4. renitent

Question Type : **MCQ**
Question ID : **264330135809**
Option 1 ID : **264330532107**
Option 2 ID : **264330532110**
Option 3 ID : **264330532108**
Option 4 ID : **264330532109**
Status : **Answered**
Chosen Option : **2**

Q.16 In the following question, out of the given four alternatives, select the alternative which best expresses the meaning of the Idiom/Phrase.
Pros and cons

- Ans
- 1. Doubtful
 - 2. To advance in harmony
 - 3. Undecided on a topic
 - 4. Arguments for and against something

Question Type : **MCQ**
Question ID : **264330134418**
Option 1 ID : **264330526647**
Option 2 ID : **264330526649**
Option 3 ID : **264330526648**
Option 4 ID : **264330526650**
Status : **Answered**
Chosen Option : **4**

Q.17 Select the most appropriate antonym of the given word.

Tangle

- Ans
- 1. Coil
 - 2. Simple
 - 3. Jam
 - 4. Labyrinth

Question Type : **MCQ**
Question ID : **264330136402**
Option 1 ID : **264330534372**
Option 2 ID : **264330534373**
Option 3 ID : **264330534374**
Option 4 ID : **264330534371**
Status : **Answered**
Chosen Option : **2**

Q.18 Select the correctly spelt word.

- Ans
- 1. Minsculee
 - 2. Manscule
 - 3. Minusulle
 - 4. Minuscule

Question Type : **MCQ**
Question ID : **264330135815**
Option 1 ID : **264330532133**
Option 2 ID : **264330532132**
Option 3 ID : **264330532134**
Option 4 ID : **264330532131**
Status : **Answered**
Chosen Option : **4**

Q.19 Select the word segment that substitutes (replaces) the bracketed word segment correctly and completes the sentence meaningfully. Select the option 'no correction required' if the sentence is correct as given.

I received word that you (were attempting) to contact me.

- Ans**
- ✓ 1. No correction required
 - ✗ 2. has attempting
 - ✗ 3. was attempting
 - ✗ 4. were strike

Question Type : **MCQ**
Question ID : **264330136616**
Option 1 ID : **264330535194**
Option 2 ID : **264330535193**
Option 3 ID : **264330535191**
Option 4 ID : **264330535192**
Status : **Answered**
Chosen Option : **1**

Q.20 Improve the underlined part of the sentence. Choose 'No improvement' as an answer if the sentence is grammatically correct.

The candidate win the voting by a narrow margin.

- Ans**
- ✗ 1. No improvement
 - ✗ 2. win a vote
 - ✓ 3. won the vote
 - ✗ 4. wins the voted

Question Type : **MCQ**
Question ID : **264330134723**
Option 1 ID : **264330527850**
Option 2 ID : **264330527847**
Option 3 ID : **264330527848**
Option 4 ID : **264330527849**
Status : **Answered**
Chosen Option : **3**

Comprehension:

In the following passage some words have been deleted. Fill in the blanks with the help of the alternatives given. Select the most appropriate option for each number.

Were the stories we told each (1) _____ true? Who knows? At the best of (2) _____, a story is a slippery thing. (3) _____ no one had told us this (4) _____ one, though it was the tale we most (5) _____ to know.

SubQuestion No : 21

Q.21 Select the most appropriate option to fill in blank number 1.

- Ans**
- ✗ 1. of us
 - ✗ 2. another
 - ✓ 3. other
 - ✗ 4. one other

Question Type : **MCQ**
Question ID : **264330136393**
Option 1 ID : **264330534335**
Option 2 ID : **264330534337**
Option 3 ID : **264330534336**
Option 4 ID : **264330534338**
Status : **Answered**
Chosen Option : **3**

Comprehension:

In the following passage some words have been deleted. Fill in the blanks with the help of the alternatives given. Select the most appropriate option for each number.

Were the stories we told each (1) _____ true? Who knows? At the best of (2) _____, a story is a slippery thing. (3) _____ no one had told us this (4) _____ one, though it was the tale we most (5) _____ to know.

SubQuestion No : 22

Q.22 Select the most appropriate option to fill in blank number 2.

- Ans 1. times
 2. clock
 3. schedule
 4. time

Question Type : **MCQ**
Question ID : **264330136394**
Option 1 ID : **264330534342**
Option 2 ID : **264330534341**
Option 3 ID : **264330534340**
Option 4 ID : **264330534339**
Status : **Answered**
Chosen Option : **1**

Comprehension:

In the following passage some words have been deleted. Fill in the blanks with the help of the alternatives given. Select the most appropriate option for each number.

Were the stories we told each (1) _____ true? Who knows? At the best of (2) _____, a story is a slippery thing. (3) _____ no one had told us this (4) _____ one, though it was the tale we most (5) _____ to know.

SubQuestion No : 23

Q.23 Select the most appropriate option to fill in blank number 3.

- Ans 1. Might be
 2. May by
 3. Could be
 4. Certainly

Question Type : **MCQ**
Question ID : **264330136395**
Option 1 ID : **264330534346**
Option 2 ID : **264330534344**
Option 3 ID : **264330534345**
Option 4 ID : **264330534343**
Status : **Answered**
Chosen Option : **4**

Comprehension:

In the following passage some words have been deleted. Fill in the blanks with the help of the alternatives given. Select the most appropriate option for each number.

Were the stories we told each (1) _____ true? Who knows? At the best of (2) _____, a story is a slippery thing. (3) _____ no one had told us this (4) _____ one, though it was the tale we most (5) _____ to know.

SubQuestion No : 24

Q.24 Select the most appropriate option to fill in blank number 4.

- Ans**
- 1. accurate
 - 2. especial
 - 3. in particular
 - 4. particular

Question Type : **MCQ**
Question ID : **264330136396**
Option 1 ID : **264330534348**
Option 2 ID : **264330534350**
Option 3 ID : **264330534347**
Option 4 ID : **264330534349**
Status : **Answered**
Chosen Option : **4**

Comprehension:

In the following passage some words have been deleted. Fill in the blanks with the help of the alternatives given. Select the most appropriate option for each number.

Were the stories we told each (1) _____ true? Who knows? At the best of (2) _____, a story is a slippery thing. (3) _____ no one had told us this (4) _____ one, though it was the tale we most (5) _____ to know.

SubQuestion No : 25

Q.25 Select the most appropriate option to fill in blank number 5.

- Ans**
- 1. require
 - 2. needed
 - 3. concern
 - 4. had

Question Type : **MCQ**
Question ID : **264330136397**
Option 1 ID : **264330534352**
Option 2 ID : **264330534353**
Option 3 ID : **264330534354**
Option 4 ID : **264330534351**
Status : **Answered**
Chosen Option : **4**

Multi Tasking Non Technical Staff and Havaladar CBIC and CBN Examination 2022

Roll Number	KD Job Updates
Candidate Name	KD Job Updates
Venue Name	iON Digital Zone iDZ Kuberpur
Exam Date	19/05/2023
Exam Time	12:00 PM - 2:00 PM
Subject	MTS Non Tech Havaladar CBIC and CBN Examination 2022

Section : Numerical and Mathematical Ability

Q.1 A woman drives a car. During her journey, she travels 20 minutes at a speed of 60 km/hr, another 30 minutes at a speed of 40 km/hr and 1 hour at a speed of 50 km/hr. The average speed of the car is:

- Ans**
- 1. 630/11 kmph
 - 2. 100/11 kmph
 - 3. 90/11 kmph
 - 4. 540/11 kmph

Question Type : MCQ

Question ID : 264330138360

Option 1 ID : 264330542050

Option 2 ID : 264330542049

Option 3 ID : 264330542048

Option 4 ID : 264330542047

Status : Answered

Chosen Option : 4

Q.2 एक वस्तु का विक्रय मूल्य Rs.520 है। यदि हानि प्रतिशत 20 प्रतिशत है, तो वस्तु का क्रय मूल्य क्या है?

- Ans**
- 1. Rs.700
 - 2. Rs.650
 - 3. Rs.720
 - 4. Rs.600

Question Type : MCQ

Question ID : 264330139082

Option 1 ID : 264330544938

Option 2 ID : 264330544936

Option 3 ID : 264330544937

Option 4 ID : 264330544935

Status : Answered

Chosen Option : 2

Q.3 पानी की एक निश्चित मात्रा को Rs. 48 प्रति लीटर मूल्य वाले दूध के साथ मिलाया जाता है। इस मिश्रण का मूल्य Rs. 30 प्रति लीटर है। नए मिश्रण में पानी और दूध का अनुपात _____ है।(पानी मुफ्त में उपलब्ध है)

- Ans
- 1. 2:3
 - 2. 3:2
 - 3. 2:5
 - 4. 3:5

Question Type : MCQ

Question ID : 264330135112

Option 1 ID : 264330529385

Option 2 ID : 264330529383

Option 3 ID : 264330529384

Option 4 ID : 264330529386

Status : Answered

Chosen Option : 4

Q.4 एक फल विक्रेता फलों के 2/5 भाग को 10% के लाभ पर और शेष को 5% की हानि पर बेचता है। यदि कुल लाभ Rs. 1850 है, तो फलों का कुल क्रय मूल्य कितना है?

- Ans
- 1. Rs.176000
 - 2. Rs.185000
 - 3. Rs.198000
 - 4. Rs.205000

Question Type : MCQ

Question ID : 264330138354

Option 1 ID : 264330542026

Option 2 ID : 264330542023

Option 3 ID : 264330542025

Option 4 ID : 264330542024

Status : Answered

Chosen Option : 2

Q.5 निम्नलिखित तालिका में चार वर्षों में विभिन्न देशों में इंजीनियरों की संख्या (सैकड़ों में) को दर्शाया गया है।

दिए गए वर्षों में कनाडा में इंजीनियरों की औसत संख्या ज्ञात कीजिए।

Year	China	Canada	India
2019	210	120	240
2020	420	320	360
2021	540	180	540
2022	620	280	340

Year - वर्ष, China - चीन, Canada - कनाडा, India - भारत

- Ans
- 1. 23000
 - 2. 25000
 - 3. 24500
 - 4. 22500

Question Type : MCQ

Question ID : 264330138385

Option 1 ID : 264330542149

Option 2 ID : 264330542147

Option 3 ID : 264330542150

Option 4 ID : 264330542148

Status : Answered

Chosen Option : 4

Q.6 P अकेले एक कार्य को 25 दिनों में पूरा कर सकता है और Q अकेले उसी कार्य को 50 दिनों में पूरा कर सकता है। यदि वे दोनों साथ मिलकर कार्य करें, तो 12 दिनों में कुल कार्य का कितना प्रतिशत कार्य पूरा होगा?

- Ans
- 1. 60 प्रतिशत
 - 2. 72 प्रतिशत
 - 3. 48 प्रतिशत
 - 4. 80 प्रतिशत

Question Type : MCQ

Question ID : 264330138015

Option 1 ID : 264330540670

Option 2 ID : 264330540669

Option 3 ID : 264330540667

Option 4 ID : 264330540668

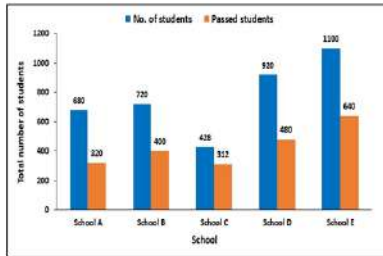
Status : Answered

Chosen Option : 2

Q.7

निम्नलिखित टॉड आलेख में पाँच अलग-अलग विद्यालयों से एक परीक्षा में बैठने वाले छात्रों की कुल संख्या को दर्शाया गया

है। परीक्षा में बैठने वाले कुल छात्रों में से लगभग कितने प्रतिशत अनुत्तीर्ण हुए हैं?



total number of students - छात्रों की कुल संख्या

number of students - छात्रों की संख्या

School - विद्यालय

- Ans
- 1. 57%
 - 2. 54%
 - 3. 47%
 - 4. 44%

Question Type : MCQ

Question ID : 264330138364

Option 1 ID : 264330542066

Option 2 ID : 264330542065

Option 3 ID : 264330542064

Option 4 ID : 264330542063

Status : Answered

Chosen Option : 4

Q.8 Rs. 900 की धनराशि को दो भागों में इस प्रकार बाँटा जाता है कि पहले भाग पर 4% वार्षिक साधारण ब्याज और दूसरे भाग पर 2% वार्षिक साधारण ब्याज दर समान है। एक वर्ष में प्रत्येक भाग पर संचित ब्याज कितना है?

- Ans
- ✓ 1. Rs. 12
 - ✗ 2. Rs. 6
 - ✗ 3. Rs. 20
 - ✗ 4. Rs. 18

Question Type : MCQ
Question ID : 264330135120
Option 1 ID : 264330529416
Option 2 ID : 264330529415
Option 3 ID : 264330529417
Option 4 ID : 264330529418
Status : Answered
Chosen Option : 1

Q.9 एक शंकु और एक बेलन की ऊँचाई समान है और शंकु की त्रिज्या बेलन की त्रिज्या की दोगुनी है। शंकु के आयतन और बेलन के आयतन का अनुपात कितना है?

- Ans
- ✓ 1. 4:3
 - ✗ 2. 4:5
 - ✗ 3. 2:5
 - ✗ 4. 3:2

Question Type : MCQ
Question ID : 264330133815
Option 1 ID : 264330524285
Option 2 ID : 264330524283
Option 3 ID : 264330524284
Option 4 ID : 264330524286
Status : Answered
Chosen Option : 1

Q.10 $(9^2 + 4^3 \div 8) \times 5$ का मान ज्ञात कीजिए।

- Ans
- ✗ 1. 400
 - ✓ 2. 445
 - ✗ 3. 450
 - ✗ 4. 420

Question Type : MCQ
Question ID : 264330138369
Option 1 ID : 264330542085
Option 2 ID : 264330542084
Option 3 ID : 264330542083
Option 4 ID : 264330542086
Status : Answered
Chosen Option : 2

Q.11 यदि एक रेलगाड़ी बैंगलोर से मुंबई तक 1000 km की यात्रा करती है और इस यात्रा में 10 घंटे लगते हैं, तो किलोमीटर प्रति घंटे (km per hour) में रेलगाड़ी की औसत चाल क्या है?

- Ans
- 1. 90 km/hr
 - 2. 120 km/hr
 - 3. 80 km/hr
 - 4. 100 km/hr

Question Type : MCQ
Question ID : 264330140997
Option 1 ID : 264330552338
Option 2 ID : 264330552335
Option 3 ID : 264330552337
Option 4 ID : 264330552336
Status : Answered
Chosen Option : 4

Q.12 विहान, मयूर से दोगुना कुशल है और मयूर से 14 दिन कम में किसी कार्य को पूरा कर सकता है। मयूर इस कार्य को कितने दिनों में पूरा कर सकता है?

- Ans
- 1. 28 दिन
 - 2. 21 दिन
 - 3. 7 दिन
 - 4. 14 दिन

Question Type : MCQ
Question ID : 264330133810
Option 1 ID : 264330524265
Option 2 ID : 264330524266
Option 3 ID : 264330524264
Option 4 ID : 264330524263
Status : Answered
Chosen Option : 1

Q.13 $(92 + 14) \div (2 \times 53) - 8 + 16$ का मान ज्ञात कीजिए।

- Ans
- 1. 9
 - 2. 17
 - 3. 11
 - 4. 8

Question Type : MCQ
Question ID : 264330138346
Option 1 ID : 264330541992
Option 2 ID : 264330541994
Option 3 ID : 264330541993
Option 4 ID : 264330541991
Status : Answered
Chosen Option : 1

Q.14 दो संख्याओं का गुणनफल 6552 और उनका महत्तम समापवर्तक (HCF) 6 है। उन संख्याओं का लघुत्तम समापवर्तक (LCM) कितना है?

- Ans
- 1. 1024
 - 2. 1224
 - 3. 1084
 - 4. 1092

Question Type : MCQ

Question ID : 264330138701

Option 1 ID : 264330543413

Option 2 ID : 264330543414

Option 3 ID : 264330543411

Option 4 ID : 264330543412

Status : Answered

Chosen Option : 4

Q.15 35 और एक निश्चित संख्या N के बीच का मध्यानुपाती, 14 और 30 के बीच के मध्यानुपाती का चार गुना है। संख्या N है:

- Ans
- 1. 75
 - 2. 192
 - 3. 124
 - 4. 92

Question Type : MCQ

Question ID : 264330138357

Option 1 ID : 264330542035

Option 2 ID : 264330542038

Option 3 ID : 264330542037

Option 4 ID : 264330542036

Status : Answered

Chosen Option : 2

Q.16 यदि एक कक्षा में लड़कों और लड़कियों का अनुपात 8:5 है, तो निम्न में से कौन-सा विकल्प उस कक्षा में छात्रों की कुल संख्या को दर्शाता है?

- Ans
- 1. 78
 - 2. 57
 - 3. 66
 - 4. 81

Question Type : MCQ

Question ID : 264330138356

Option 1 ID : 264330542031

Option 2 ID : 264330542034

Option 3 ID : 264330542032

Option 4 ID : 264330542033

Status : Answered

Chosen Option : 1

Q.17 यदि एक पुस्तक के मूल्य में पहले 18% की वृद्धि की गई और फिर 18% की कमी की गई, तो पुस्तक के मूल्य में निवल परिवर्तन कितना हुआ?

- Ans
- 1. 18% की कमी
 - 2. कोई परिवर्तन नहीं हुआ
 - 3. 18% की वृद्धि
 - 4. 3.24% की कमी

Question Type : MCQ

Question ID : 264330135396

Option 1 ID : 264330530492

Option 2 ID : 264330530491

Option 3 ID : 264330530494

Option 4 ID : 264330530493

Status : Answered

Chosen Option : 4

Q.18 20 प्रेक्षणों का माध्य 42 था। बाद में यह पाया गया कि एक प्रेक्षण 54 को गलती से 45 मान लिया गया था। संशोधित नया माध्य है:

- Ans
- 1. 45.42
 - 2. 44.25
 - 3. 42.45
 - 4. 43.5

Question Type : MCQ

Question ID : 264330138349

Option 1 ID : 264330542003

Option 2 ID : 264330542006

Option 3 ID : 264330542005

Option 4 ID : 264330542004

Status : Answered

Chosen Option : 3

Q.19 Rs. X पर 7.5% वार्षिक दर पर 2 वर्षों के लिए चक्रवृद्धि ब्याज और साधारण ब्याज के बीच का अंतर Rs. 22.50 है। X का मान ज्ञात कीजिए।

- Ans
- 1. Rs. 4000
 - 2. Rs. 1900
 - 3. Rs. 2000
 - 4. Rs. 5000

Question Type : MCQ

Question ID : 264330135403

Option 1 ID : 264330530521

Option 2 ID : 264330530520

Option 3 ID : 264330530519

Option 4 ID : 264330530522

Status : Answered

Chosen Option : 1

Q.20 पवन ने एक शर्ट खरीदी जिसका अंकित मूल्य Rs. 2200 है। शर्ट पर दिया जा रहा बड़ा 8% है। पवन को शर्ट का कितना मूल्य देना होगा?

- Ans**
- ✓ 1. Rs.2024
 - ✗ 2. Rs.2099
 - ✗ 3. Rs.2120
 - ✗ 4. Rs.1999

Question Type : **MCQ**

Question ID : **264330138355**

Option 1 ID : **264330542028**

Option 2 ID : **264330542030**

Option 3 ID : **264330542027**

Option 4 ID : **264330542029**

Status : **Answered**

Chosen Option : **1**

Section : **Reasoning Ability and Problem Solving**

Q.1 निम्नलिखित प्रश्न में कुछ कथन दिए गए हैं और उन कथनों के आधार पर कुछ निष्कर्ष दिए गए हैं। आपको यह मानना है कि दिए गए कथन सत्य हैं चाहे वे सामान्यतः ज्ञात तथ्यों से अलग प्रतीत होते हों। सभी निष्कर्षों को पढ़िए और फिर निश्चय कीजिए कि दिए गए निष्कर्षों में से कौन-सा निष्कर्ष तार्किक रूप से दिए गए कथनों के अनुसार है।

कथन:

- I. सभी A, G हैं।
- II. कुछ M, G हैं।

निष्कर्ष:

- I. कुछ G, A हैं।
- II. कुछ G, M हैं।
- III. सभी M, A हैं।

- Ans**
- ✗ 1. दोनों निष्कर्ष I और III कथनों के अनुसार हैं
 - ✗ 2. सभी निष्कर्ष कथनों के अनुसार हैं
 - ✗ 3. केवल निष्कर्ष II कथनों के अनुसार है
 - ✓ 4. दोनों निष्कर्ष I और II कथनों के अनुसार हैं

Question Type : **MCQ**

Question ID : **264330138467**

Option 1 ID : **264330542477**

Option 2 ID : **264330542476**

Option 3 ID : **264330542475**

Option 4 ID : **264330542478**

Status : **Answered**

Chosen Option : **4**

Q.2 एक निश्चित कूट भाषा में, 'KG' को 'MJ' लिखा जाता है। उस भाषा में 'EI' को कैसे लिखा जाएगा?

- Ans
- 1. JS
 - 2. RS
 - 3. GL
 - 4. RJ

Question Type : MCQ

Question ID : 264330137587

Option 1 ID : 264330538956

Option 2 ID : 264330538958

Option 3 ID : 264330538957

Option 4 ID : 264330538955

Status : Answered

Chosen Option : 3

Q.3 एक निश्चित कूट भाषा में, 'MOVIES' को 'PRYFBP' लिखा जाता है। उस भाषा में 'JACKSY' को कैसे लिखा जाएगा?

- Ans
- 1. MFDHPV
 - 2. MDFHVP
 - 3. MDFHPV
 - 4. MDFVPH

Question Type : MCQ

Question ID : 264330137835

Option 1 ID : 264330539948

Option 2 ID : 264330539947

Option 3 ID : 264330539950

Option 4 ID : 264330539949

Status : Answered

Chosen Option : 3

Q.4 एक श्रृंखला दी गई है जिसमें एक पद लुप्त है। दिए गए विकल्पों में से उस सही विकल्प को चुनिए जो श्रृंखला को पूरा करेगा।

PAKC, NDIF, LGGI, JJEL, ?

- Ans
- 1. HNCO
 - 2. HMCP
 - 3. IMLO
 - 4. HMCO

Question Type : MCQ

Question ID : 264330138456

Option 1 ID : 264330542433

Option 2 ID : 264330542434

Option 3 ID : 264330542431

Option 4 ID : 264330542432

Status : Answered

Chosen Option : 4

Q.5 उस विकल्प को चुनिए जो पाँचवें पद से ठीक उसी प्रकार संबंधित है जिस प्रकार दूसरा पद पहले पद से संबंधित है और चौथा पद तीसरे पद से संबंधित है।

MOL : TIQ :: FIG : MCL :: HAK : ?

- Ans
- 1. PVP
 - 2. OVP
 - 3. PUQ
 - 4. OUP

Question Type : **MCQ**

Question ID : **264330138459**

Option 1 ID : **264330542446**

Option 2 ID : **264330542444**

Option 3 ID : **264330542443**

Option 4 ID : **264330542445**

Status : **Answered**

Chosen Option : **4**

Q.6 उस विकल्प को चुनिए जो पाँचवें पद से ठीक उसी प्रकार संबंधित है जिस प्रकार दूसरा पद पहले पद से संबंधित है और चौथा पद तीसरे पद से संबंधित है।

HER : GCM :: TOP : SMK :: PIT : ?

- Ans
- 1. OHO
 - 2. QGP
 - 3. OGQ
 - 4. OGO

Question Type : **MCQ**

Question ID : **264330138458**

Option 1 ID : **264330542440**

Option 2 ID : **264330542439**

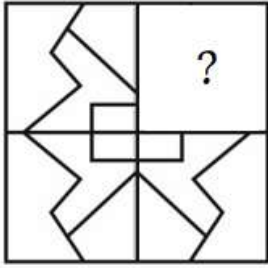
Option 3 ID : **264330542441**

Option 4 ID : **264330542442**

Status : **Answered**

Chosen Option : **4**

Q.7 कौन-सी उत्तर आकृति प्रश्न आकृति में दिए गए पैटर्न को पूरा करेगी?



Ans

✗ 1.



✓ 2.



✗ 3.



✗ 4.



Question Type : MCQ

Question ID : 264330138476

Option 1 ID : 264330542514

Option 2 ID : 264330542513

Option 3 ID : 264330542512

Option 4 ID : 264330542511

Status : Answered

Chosen Option : 2

Q.8 उस विकल्प को चुनिए जिसमें समुच्चय की संख्याएँ वही संबंध साझा करती हैं जो दिए गए समुच्चय में संख्याओं द्वारा साझा किया जाता है। (ध्यान दें: संख्याओं को उनके घटक अंकों में अलग-अलग किए बिना, पूर्ण संख्याओं पर संक्रियाएँ की जानी चाहिए। उदा. 13 - 13 पर संक्रियाएँ जैसे 13 को जोड़ना /घटाना /गुणा करना आदि किया जा सकता है। 13 को 1 और 3 में अलग-अलग करने की और फिर 1 और 3 पर गणितीय संक्रियाएँ करने की अनुमति नहीं है)

(80, 5, 16)

(90, 9, 10)

Ans ✓ 1. (140, 7, 20)

✗ 2. (40, 3, 10)

✗ 3. (200, 20, 25)

✗ 4. (50, 5, 20)

Question Type : **MCQ**

Question ID : **264330138471**

Option 1 ID : **264330542493**

Option 2 ID : **264330542491**

Option 3 ID : **264330542494**

Option 4 ID : **264330542492**

Status : **Answered**


Chosen Option : **1**

Q.9 उस विकल्प आकृति को चुनिए जिसमें दी गई आकृति निहित है। (घूर्णन की अनुमति नहीं है)

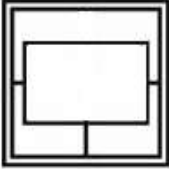


Ans

✓ 1.



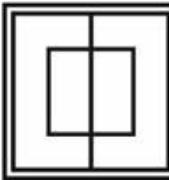
✗ 2.



✗ 3.



✗ 4.



Question Type : MCQ

Question ID : 264330138495

Option 1 ID : 264330542587

Option 2 ID : 264330542590

Option 3 ID : 264330542589

Option 4 ID : 264330542588

Status : Answered

Chosen Option : 1

Q.10 दी गई दो संख्याओं को आपस में बदलने पर, दिए गए समीकरण का मान क्या होगा?

$$2 \text{ और } 3 ; 5 - 3 \div 1 \times 2 + 7$$

Ans ✗ 1. 8

✓ 2. 6

✗ 3. 11

✗ 4. 9

Question Type : MCQ

Question ID : 264330138472

Option 1 ID : 264330542496

Option 2 ID : 264330542495

Option 3 ID : 264330542498

Option 4 ID : 264330542497

Status : Answered

Chosen Option : 2

Q.11 यदि A का अर्थ 'जोड़', B का अर्थ 'गुणा', C का अर्थ 'घटाव' और D का अर्थ 'भाग' है, तो निम्नलिखित समीकरण का मान क्या होगा?
(46 D 23) A 17 C 13 = ?

- Ans
- 1. 9
 - 2. 13
 - 3. 5
 - 4. 6

Question Type : MCQ
Question ID : 264330135016
Option 1 ID : 264330529002
Option 2 ID : 264330529001
Option 3 ID : 264330528999
Option 4 ID : 264330529000
Status : Answered
Chosen Option : 4

Q.12 निम्नलिखित प्रश्न में, दी गई श्रृंखला में लुप्त संख्या को चुनिए।

9, 18, 36, 72, 144, ?

- Ans
- 1. 290
 - 2. 310
 - 3. 280
 - 4. 288

Question Type : MCQ
Question ID : 264330135606
Option 1 ID : 264330531324
Option 2 ID : 264330531325
Option 3 ID : 264330531326
Option 4 ID : 264330531323
Status : Answered
Chosen Option : 4

Q.13 सात शिक्षक अनिल, कमल, राम, संजय, आकाश, विवेक और राहुल एक वृत्ताकार मेज के चारों ओर केंद्र के विपरीत दिशा की ओर मुख करके बैठे हैं (परंतु जरूरी नहीं कि वे इसी क्रम में बैठें हों)। संजय, अनिल के ठीक दाईं ओर है। अनिल, राहुल के दाईं ओर से तीसरे स्थान पर है। विवेक, आकाश का निकटतम पड़ोसी नहीं है। कमल, विवेक के दाईं ओर से दूसरे स्थान पर है। अनिल के दाईं ओर से दूसरे स्थान पर कौन है?

- Ans
- 1. कमल
 - 2. संजय
 - 3. विवेक
 - 4. राम

Question Type : MCQ
Question ID : 264330138464
Option 1 ID : 264330542463
Option 2 ID : 264330542465
Option 3 ID : 264330542466
Option 4 ID : 264330542464
Status : Answered
Chosen Option : 4

Q.14 उस विकल्प को चुनिए जो पाँचवी संख्या से ठीक उसी प्रकार संबंधित है जिस प्रकार दूसरी संख्या पहली संख्या से संबंधित है और चौथी संख्या तीसरी संख्या से संबंधित है।

9 : 727 :: 8 : 510 :: 4 : ?

- Ans
- 1. 58
 - 2. 60
 - 3. 62
 - 4. 67

Question Type : MCQ

Question ID : 264330135608

Option 1 ID : 264330531331

Option 2 ID : 264330531332

Option 3 ID : 264330531333

Option 4 ID : 264330531334

Status : Answered

Chosen Option : 3

Q.15 एक निश्चित कूट भाषा में, 'GLOBAL' को 'EJMZYJ' लिखा जाता है। उस कूट भाषा में 'HONEST' को कैसे लिखा जाएगा?

- Ans
- 1. FMLDQR
 - 2. FNLCQR
 - 3. FMLCQR
 - 4. FMLCQS

Question Type : MCQ

Question ID : 264330135565

Option 1 ID : 264330531160

Option 2 ID : 264330531159

Option 3 ID : 264330531162

Option 4 ID : 264330531161

Status : Answered

Chosen Option : 3

Q.16 छः बाइक T1, T2, T3, T4, T5 और T6 की चाल की तुलना की जाती है। T6 की चाल सिर्फ तीन बाइक से अधिक है। कोई भी दो बाइक की चाल समान नहीं है। T4 की चाल T2 से अधिक लेकिन T6 से कम है। T3 की चाल T5 से कम नहीं है। T2 की चाल सबसे कम नहीं है। किन बाइकों की चाल T4 से अधिक हो सकती है?

I. T3

II. T1

- Ans
- 1. केवल II
 - 2. I और II दोनों
 - 3. केवल I
 - 4. न तो I और न ही II

Question Type : MCQ

Question ID : 264330138465

Option 1 ID : 264330542468

Option 2 ID : 264330542469

Option 3 ID : 264330542467

Option 4 ID : 264330542470

Status : Answered

Chosen Option : 2

Q.17 आठ लड़कियाँ मानसी, श्वेता, मोनिका, पायल, आरती, काजल, लक्ष्मी और रानी एक वृत्ताकार मेज के चारों ओर केंद्र की ओर मुख करके बैठी हैं (परंतु जरूरी नहीं कि वे इसी क्रम में बैठी हों)। मानसी, श्वेता के दाईं ओर से तीसरे स्थान पर है। श्वेता, रानी के दाईं ओर से दूसरे स्थान पर है। काजल, पायल के दाईं ओर से चौथे स्थान पर है। पायल, रानी के ठीक बाईं ओर है। लक्ष्मी, रानी के बाईं ओर से दूसरे स्थान पर है। मोनिका, रानी और श्वेता दोनों की निकटतम पड़ोसी है। मोनिका के बाईं ओर से तीसरे स्थान पर कौन है?

- Ans
- ✓ 1. लक्ष्मी
 - ✗ 2. काजल
 - ✗ 3. आरती
 - ✗ 4. श्वेता

Question Type : MCQ

Question ID : 264330138463

Option 1 ID : 264330542462

Option 2 ID : 264330542461

Option 3 ID : 264330542459

Option 4 ID : 264330542460

Status : Answered

Chosen Option : 1

Q.18 निम्नलिखित प्रश्न में, दी गई श्रृंखला में लुप्त संख्या को चुनिए।

5, 9, 17, 33, 65, ?

- Ans
- ✗ 1. 128
 - ✗ 2. 140
 - ✓ 3. 129
 - ✗ 4. 130

Question Type : MCQ

Question ID : 264330138469

Option 1 ID : 264330542484

Option 2 ID : 264330542486

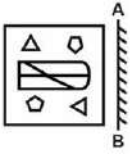
Option 3 ID : 264330542485

Option 4 ID : 264330542483

Status : Answered

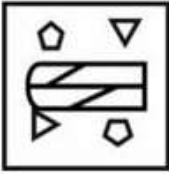
Chosen Option : 3

Q.19 यदि एक दर्पण को रेखा AB पर रखा जाए, तो दी गई विकल्प आकृतियों में से कौन-सी आकृति प्रश्न आकृति का सही प्रतिबिम्ब होगी?



Ans

✗ 1.



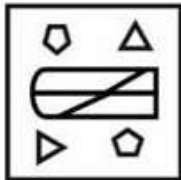
✗ 2.



✗ 3.



✓ 4.



Question Type : MCQ

Question ID : 264330138496

Option 1 ID : 264330542594

Option 2 ID : 264330542592

Option 3 ID : 264330542593

Option 4 ID : 264330542591

Status : Answered

Chosen Option : 4

Q.20 निम्नलिखित प्रश्न में कुछ कथन दिए गए हैं और उन कथनों के आधार पर कुछ निष्कर्ष दिए गए हैं। आपको यह मानना है कि दिए गए कथन सत्य हैं चाहे वे सामान्यतः ज्ञात तथ्यों से अलग प्रतीत होते हों। सभी निष्कर्षों को पढ़िए और फिर निश्चय कीजिए कि दिए गए निष्कर्षों में से कौन-सा निष्कर्ष तार्किक रूप से दिए गए कथनों के अनुसार है।

कथन:

- I. कुछ R, Q हैं।
- II. सभी Q, G हैं।

निष्कर्ष:

- I. सभी G, R हैं।
- II. कोई Q, R नहीं है।

Ans ✓ 1. कोई भी निष्कर्ष कथनों के अनुसार नहीं है

✗ 2. केवल निष्कर्ष I कथनों के अनुसार है

✗ 3. दोनों निष्कर्ष I और II कथनों के अनुसार हैं

✗ 4. केवल निष्कर्ष II कथनों के अनुसार है

Question Type : MCQ

Question ID : 264330138466

Option 1 ID : 264330542474

Option 2 ID : 264330542471

Option 3 ID : 264330542473

Option 4 ID : 264330542472

Status : Answered

Chosen Option : 1

Section : General Awareness

Q.1 किस नर्तक को प्राचीन नृत्य शैली 'सादिर (Sathir)' के लिए कला वर्ग में पद्म श्री से सम्मानित किया गया था?

Ans ✗ 1. तृप्ति तिवारी (Tripti Tiwari)

✗ 2. कौशलया रेड्डी (Kaushalya Reddy)

✗ 3. मंजम्मा जोगती (Manjamma Jogati)

✓ 4. आर मुथुकन्नमल (R Muthukannamal)

Question Type : MCQ

Question ID : 264330137780

Option 1 ID : 264330539729

Option 2 ID : 264330539727

Option 3 ID : 264330539730

Option 4 ID : 264330539728

Status : Not Answered

Chosen Option : --

Q.2 निम्नलिखित में से किस राज्य के मुख्यमंत्री ने किसानों के लिए ऋण सुविधा आसान बनाने के लिए सामान्य क्रेडिट पोर्टल - सिम्प्लिफाइड एप्लीकेशन फॉर एग्रीकल्चरल लोन्स (Simplified Application for Agricultural Loans - SAFAL) की शुरुआत की है?

- Ans
- 1. महाराष्ट्र
 - 2. उड़ीसा
 - 3. बिहार
 - 4. पश्चिम बंगाल

Question Type : MCQ
Question ID : 264330138221
Option 1 ID : 264330541491
Option 2 ID : 264330541492
Option 3 ID : 264330541493
Option 4 ID : 264330541494
Status : Not Answered
Chosen Option : --

Q.3 संस्कृत भाषा _____ भाषा-परिवार का हिस्सा है।

- Ans
- 1. भारत-तिब्बती (Indo-Tibetan)
 - 2. भारत-द्रविड़ (Indo-Dravidian)
 - 3. भारत-एशियाई (Indo-Asian)
 - 4. भारत- यूरोपीय (Indo-European)

Question Type : MCQ
Question ID : 264330138267
Option 1 ID : 264330541678
Option 2 ID : 264330541677
Option 3 ID : 264330541676
Option 4 ID : 264330541675
Status : Answered
Chosen Option : 2

Q.4 भारतीय संविधान का अनुच्छेद 19-22 निम्नलिखित में से किस मौलिक अधिकार से संबंधित है?

- Ans
- 1. स्वतंत्रता का अधिकार
 - 2. धार्मिक स्वतंत्रता का अधिकार
 - 3. समानता का अधिकार
 - 4. शोषण के विरुद्ध अधिकार

Question Type : MCQ
Question ID : 264330138241
Option 1 ID : 264330541572
Option 2 ID : 264330541574
Option 3 ID : 264330541571
Option 4 ID : 264330541573
Status : Answered
Chosen Option : 1

Q.5 डेटा संरक्षण विधेयक 2021 किस मौलिक अधिकार को सुनिश्चित करता है?

- Ans
- 1. शिक्षा के अधिकार
 - 2. सूचना प्रौद्योगिकी के अधिकार
 - 3. गोपनीयता के अधिकार
 - 4. अभिव्यक्ति की आजादी के अधिकार

Question Type : MCQ
Question ID : 264330134670
Option 1 ID : 264330527635
Option 2 ID : 264330527637
Option 3 ID : 264330527636
Option 4 ID : 264330527638
Status : Answered
Chosen Option : 3

Q.6 इल्बर्ट बिल (Ilbert Bill) में, _____ का प्रावधान किया गया था ।

- Ans
- 1. राष्ट्रवादी को कड़ी सजा
 - 2. शिक्षा प्रणाली में सुधार
 - 3. सैन्य प्रणाली में सुधार
 - 4. ब्रिटिश और भारतीय न्यायाधीशों के बीच समानता

Question Type : MCQ
Question ID : 264330138270
Option 1 ID : 264330541687
Option 2 ID : 264330541689
Option 3 ID : 264330541690
Option 4 ID : 264330541688
Status : Answered
Chosen Option : 2

Q.7 भारत अपनी अधिकांश पश्चिमी सीमा किस पड़ोसी देश के साथ साझा करता है?

- Ans
- 1. पाकिस्तान
 - 2. भूटान
 - 3. चीन
 - 4. म्यांमार

Question Type : MCQ
Question ID : 264330135446
Option 1 ID : 264330530691
Option 2 ID : 264330530692
Option 3 ID : 264330530693
Option 4 ID : 264330530694
Status : Answered
Chosen Option : 4

Q.8 कोबी ब्रायंट _____ खेल के प्रसिद्ध खिलाड़ी थे।

- Ans
- ✓ 1. बास्केटबॉल
 - ✗ 2. लॉन टेनिस
 - ✗ 3. क्रिकेट
 - ✗ 4. रग्बी

Question Type : MCQ
Question ID : 264330135482
Option 1 ID : 264330530838
Option 2 ID : 264330530837
Option 3 ID : 264330530835
Option 4 ID : 264330530836
Status : Not Answered
Chosen Option : --

Q.9 मध्यप्रदेश का गांधीसागर बांध निम्नलिखित में से किस नदी पर बना है?

- Ans
- ✗ 1. कावेरी
 - ✓ 2. चंबल
 - ✗ 3. बनास
 - ✗ 4. रावि

Question Type : MCQ
Question ID : 264330138231
Option 1 ID : 264330541533
Option 2 ID : 264330541532
Option 3 ID : 264330541534
Option 4 ID : 264330541531
Status : Answered
Chosen Option : 2

Q.10 केलुचरण महापात्र निम्नलिखित में से किस नृत्य शैली से संबंधित एक जानी-मानी शख्सियत हैं?

- Ans
- ✗ 1. मणिपुरी
 - ✓ 2. ओडिसी
 - ✗ 3. कथक
 - ✗ 4. छऊ

Question Type : MCQ
Question ID : 264330138223
Option 1 ID : 264330541501
Option 2 ID : 264330541499
Option 3 ID : 264330541502
Option 4 ID : 264330541500
Status : Answered
Chosen Option : 2

Q.11 निम्नलिखित में से कौन-सा वनस्पति जगत, लिबरवर्ट (liverworts) और मॉस (mosses) में विभाजित हैं?

- Ans
- 1. स्पर्मटोफाइट (Spermatophyta)
 - 2. स्फीनोप्सिडा (Sphenopsida)
 - 3. टेरिडोफाइट (Pteridophytes)
 - 4. ब्रायोफाइट (Bryophytes)

Question Type : MCQ
Question ID : 264330138227
Option 1 ID : 264330541517
Option 2 ID : 264330541518
Option 3 ID : 264330541516
Option 4 ID : 264330541515
Status : Answered
Chosen Option : 4

Q.12 Which among the following occur when two tectonic plates are moving past each other with different speeds?

- Ans
- 1. Blizzard
 - 2. Drought
 - 3. Hurricane
 - 4. Earthquake

Question Type : MCQ
Question ID : 264330135467
Option 1 ID : 264330530778
Option 2 ID : 264330530777
Option 3 ID : 264330530776
Option 4 ID : 264330530775
Status : Answered
Chosen Option : 4

Q.13 निम्न में से कौन ओलंपिक पदक जीतने वाला पहला भारतीय और एशियाई टेनिस खिलाड़ी था?

- Ans
- 1. लिण्डर पेस
 - 2. पीवी सिंधु
 - 3. पूरव राजा
 - 4. अंकिता रैना

Question Type : MCQ
Question ID : 264330138243
Option 1 ID : 264330541580
Option 2 ID : 264330541579
Option 3 ID : 264330541581
Option 4 ID : 264330541582
Status : Answered
Chosen Option : 2

Q.14 भारत के किसी राज्य के राज्यपाल के रूप में नियुक्त होने के इच्छुक व्यक्ति की न्यूनतम आयु कितनी होनी चाहिए?

- Ans
- 1. 28 साल
 - 2. 30 साल
 - 3. 40 साल
 - 4. 35 साल

Question Type : MCQ

Question ID : 264330138242

Option 1 ID : 264330541577

Option 2 ID : 264330541576

Option 3 ID : 264330541578

Option 4 ID : 264330541575

Status : Answered

Chosen Option : 4

Q.15 नाबार्ड (NABARD), 1982 में भारत सरकार द्वारा स्थापित एक शीर्ष वित्त संस्थान है। NABARD में 'R' का क्या अर्थ है?

- Ans
- 1. रैंक (Rank)
 - 2. रूरल (Rural)
 - 3. रेगुलेटरी (Regulatory)
 - 4. राईट (Right)

Question Type : MCQ

Question ID : 264330137785

Option 1 ID : 264330539747

Option 2 ID : 264330539748

Option 3 ID : 264330539749

Option 4 ID : 264330539750

Status : Answered

Chosen Option : 2

Q.16 एक आवेशित वस्तु द्वारा किसी दूसरी आवेशित अथवा अनावेशित वस्तु पर लगाया गया बल _____ कहलाता है।

- Ans
- 1. स्थिरवैद्युत बल
 - 2. दाब
 - 3. कोणीय बल
 - 4. पेशीय बल

Question Type : MCQ

Question ID : 264330135464

Option 1 ID : 264330530763

Option 2 ID : 264330530766

Option 3 ID : 264330530765

Option 4 ID : 264330530764

Status : Answered

Chosen Option : 1

Q.17 निम्नलिखित में से कौन-सी वास्तुकला औरंगजेब की पत्नी दिलरास बानो बेगम का स्मारक है?

- Ans
- 1. ताजमहल
 - 2. जामा मस्जिद
 - 3. शाह बेगम का मकबरा
 - 4. बीबी का मकबरा

Question Type : MCQ
Question ID : 264330134673
Option 1 ID : 264330527647
Option 2 ID : 264330527648
Option 3 ID : 264330527649
Option 4 ID : 264330527650
Status : Answered
Chosen Option : 4

Q.18 बृजभूषण काबरा का संबंध निम्नलिखित में से किस वाद्य यंत्र से है?

- Ans
- 1. गिटार
 - 2. वायलिन
 - 3. बाँसुरी
 - 4. शहनाई

Question Type : MCQ
Question ID : 264330138239
Option 1 ID : 264330541564
Option 2 ID : 264330541563
Option 3 ID : 264330541566
Option 4 ID : 264330541565
Status : Not Answered
Chosen Option : --

Q.19 "ए ब्रीफ हिस्ट्री ऑफ टाइम (A Brief History of Time)" पुस्तक किसने लिखी है?

- Ans
- 1. स्टीफन हॉकिंग (Stephen Hawking)
 - 2. जॉन वाटसन (John Watson)
 - 3. अल्बर्ट आइंस्टीन (Albert Einstein)
 - 4. नील डेग्रसे टायसन (Neil Degrasse Tyson)

Question Type : MCQ
Question ID : 264330137778
Option 1 ID : 264330539721
Option 2 ID : 264330539720
Option 3 ID : 264330539719
Option 4 ID : 264330539722
Status : Answered
Chosen Option : 1

Q.20 भारत का कौन-सा शहर चाय उद्योग से जुड़ा है?

- Ans
- 1. मदुरै, तमिलनाडु
 - 2. दार्जिलिंग, पश्चिम बंगाल
 - 3. पानीपत, हरियाणा
 - 4. अहमदाबाद, गुजरात

Question Type : MCQ
Question ID : 264330137770
Option 1 ID : 264330539690
Option 2 ID : 264330539688
Option 3 ID : 264330539689
Option 4 ID : 264330539687
Status : Answered
Chosen Option : 2

Q.21 अलीवर्दी खान के बाद _____ बंगाल का नवाब बना।

- Ans
- 1. सरफराज़ खान
 - 2. सिराजुद्दौला
 - 3. शुजा-उद-दौला
 - 4. मुर्शिद कुली खां

Question Type : MCQ
Question ID : 264330135473
Option 1 ID : 264330530801
Option 2 ID : 264330530800
Option 3 ID : 264330530802
Option 4 ID : 264330530799
Status : Answered
Chosen Option : 2

Q.22 निम्नलिखित में से कौन कोशिकाओं की खोज करने वाला पहला जीवविज्ञानी था?

- Ans
- 1. रॉबर्ट हुक (Robert Hooke)
 - 2. ग्रेगर मेंडल (Gregor Mendel)
 - 3. चार्ल्स डार्विन (Charles Darwin)
 - 4. रॉसलिंग फ्रैंक्लिन (Rosalind Franklin)

Question Type : MCQ
Question ID : 264330135466
Option 1 ID : 264330530771
Option 2 ID : 264330530773
Option 3 ID : 264330530772
Option 4 ID : 264330530774
Status : Answered
Chosen Option : 1

Q.23 निम्नलिखित में से कौन-से कारक जनसंख्या के वितरण को प्रभावित करते हैं?

- I. जलवायु (Climate)
- II. मृदा (Soil)
- III. भौगोलिक स्थिति (Topography)
- IV. जल (Water)

Ans 1. I, II, III, और IV

2. I, III और IV

3. II और IV

4. I और III

Question Type : MCQ

Question ID : 264330138644

Option 1 ID : 264330543186

Option 2 ID : 264330543185

Option 3 ID : 264330543184

Option 4 ID : 264330543183

Status : Answered

Chosen Option : 1

Q.24 किस स्वतंत्रता संग्राम आंदोलन के दौरान महात्मा गांधी जी ने "करो या मरो (Do or Die)" का नारा दिया था?

Ans 1. असहयोग आंदोलन

2. भारत छोड़ो आंदोलन

3. खिलाफत आंदोलन

4. दांडी मार्च

Question Type : MCQ

Question ID : 264330134684

Option 1 ID : 264330527693

Option 2 ID : 264330527691

Option 3 ID : 264330527692

Option 4 ID : 264330527694

Status : Answered

Chosen Option : 2

Q.25 हैलोवीन(Halloween) हर वर्ष _____ को मनाया जाता है।

- Ans
- 1. 24 नवंबर
 - 2. 1 अक्टूबर
 - 3. 25 दिसंबर
 - 4. 31 अक्टूबर

Question Type : MCQ
Question ID : 264330138247
Option 1 ID : 264330541598
Option 2 ID : 264330541597
Option 3 ID : 264330541596
Option 4 ID : 264330541595
Status : Answered
Chosen Option : 3

Section : English Language and Comprehension

Q.1 Select the most appropriate option to fill in the blank.

I often feel I am an _____, that I would be more at home at the turn of the century than today.

- Ans
- 1. apathy
 - 2. analogous
 - 3. avarice
 - 4. anachronism

Question Type : MCQ
Question ID : 264330136672
Option 1 ID : 264330535409
Option 2 ID : 264330535407
Option 3 ID : 264330535410
Option 4 ID : 264330535408
Status : Answered
Chosen Option : 3

Q.2 The statement below has been given with bracketed text. Select the option with correct Idiom for the bracketed text.

History certainly gives you (something to think about), doesn't it?

- Ans
- 1. golden handshake
 - 2. cup of Joe
 - 3. food for thought
 - 4. forty winks

Question Type : MCQ
Question ID : 264330136608
Option 1 ID : 264330535160
Option 2 ID : 264330535162
Option 3 ID : 264330535161
Option 4 ID : 264330535159
Status : Answered
Chosen Option : 1

Q.3 Select the most appropriate word for the given group of words.

An inscription on or at a tomb or a grave

- Ans**
- 1. Ode
 - 2. Epitaph
 - 3. Imprint
 - 4. Carving

Question Type : **MCQ**
Question ID : **264330136602**
Option 1 ID : **264330535135**
Option 2 ID : **264330535137**
Option 3 ID : **264330535136**
Option 4 ID : **264330535138**
Status : **Answered**
Chosen Option : **2**

Q.4 Identify the segment that contains a grammatical error. If there is no error, select 'No error'.

Sorry I will be late as a flight / has been delayed due / to bad weather.

- Ans**
- 1. Sorry I will be late as a flight
 - 2. No error
 - 3. to bad weather.
 - 4. has been delayed due

Question Type : **MCQ**
Question ID : **264330136589**
Option 1 ID : **264330535087**
Option 2 ID : **264330535090**
Option 3 ID : **264330535089**
Option 4 ID : **264330535088**
Status : **Answered**
Chosen Option : **1**

Q.5 Fill in the blank with the most appropriate option.

Even the rules for spelling can cause you to _____.

- Ans**
- 1. happen a mistake
 - 2. have a mistake
 - 3. do a mistake
 - 4. make a mistake

Question Type : **MCQ**
Question ID : **264330136637**
Option 1 ID : **264330535272**
Option 2 ID : **264330535274**
Option 3 ID : **264330535271**
Option 4 ID : **264330535273**
Status : **Answered**
Chosen Option : **4**

Q.6 Select the most appropriate option to substitute the bracketed segment in the given sentence. If there is no need to substitute it, select 'no substitution required'.

The Bank of New York has increased (interest rates four times from last January.)

- Ans**
- 1. interest rates from last January, four times.
 - 2. No substitution required
 - 3. the interest rates four time from last January.
 - 4. interest rates four times since last January.

Question Type : **MCQ**
Question ID : **264330136721**
Option 1 ID : **264330535597**
Option 2 ID : **264330535598**
Option 3 ID : **264330535595**
Option 4 ID : **264330535596**
Status : **Answered**
Chosen Option : **2**

Q.7 Four sentences are given, out of which three have spelling errors. Choose the sentence with all correctly spelled words.

- Ans**
- 1. He was arrested for drunkenness on his way to the football ground.
 - 2. A dumbbell is a short bar with weigts on either side.
 - 3. His performance exceeded all expectations.
 - 4. He was quite humorus, and I liked that about him

Question Type : **MCQ**
Question ID : **264330136636**
Option 1 ID : **264330535267**
Option 2 ID : **264330535269**
Option 3 ID : **264330535268**
Option 4 ID : **264330535270**
Status : **Answered**
Chosen Option : **3**

Q.8 Improve the underlined part of the sentence. Choose 'No improvement' as an answer if the sentence is grammatically correct.

The dress is too tights around the waist.

- Ans**
- 1. too tightly
 - 2. No improvement
 - 3. too tightest
 - 4. too tight

Question Type : **MCQ**
Question ID : **264330135181**
Option 1 ID : **264330529657**
Option 2 ID : **264330529658**
Option 3 ID : **264330529655**
Option 4 ID : **264330529656**
Status : **Answered**
Chosen Option : **4**

Q.9 Find the part of the given sentence that has an error in it. If there is no error, choose 'No error'.

There were a time when scientists took this myth seriously.

- Ans**
- 1. No error
 - 2. when scientists took
 - 3. this myth seriously.
 - 4. There were a time

Question Type : **MCQ**

Question ID : **264330134451**

Option 1 ID : **264330526778**

Option 2 ID : **264330526776**

Option 3 ID : **264330526777**

Option 4 ID : **264330526775**

Status : **Answered**

Chosen Option : **4**

Q.10 In the following question, out of the given four alternatives, select the alternative which best expresses the meaning of the Idiom/Phrase.

In ones and twos

- Ans**
- 1. Large margin
 - 2. In small numbers
 - 3. By unfair means
 - 4. To count resources

Question Type : **MCQ**

Question ID : **264330135224**

Option 1 ID : **264330529821**

Option 2 ID : **264330529822**

Option 3 ID : **264330529819**

Option 4 ID : **264330529820**

Status : **Answered**

Chosen Option : **2**

Q.11 Select the word from the options which is similar in meaning to the bracketed word given in the sentence below.

He maliciously (damaged) a car with a baseball bat.

- Ans**
- 1. Marred
 - 2. Loaded
 - 3. Corrupted
 - 4. Mended

Question Type : **MCQ**

Question ID : **264330136656**

Option 1 ID : **264330535344**

Option 2 ID : **264330535345**

Option 3 ID : **264330535343**

Option 4 ID : **264330535346**

Status : **Answered**

Chosen Option : **4**

Q.12 Identify the segment that contains a grammatical error. If there is no error, select 'No error'.
Here, in truth, lies / the crux of the / great problem of all.

- Ans**
- ✓ 1. great problem of all.
 - ✗ 2. No error
 - ✗ 3. the crux of the
 - ✗ 4. Here, in truth, lies

Question Type : **MCQ**
Question ID : **264330136718**
Option 1 ID : **264330535585**
Option 2 ID : **264330535586**
Option 3 ID : **264330535584**
Option 4 ID : **264330535583**
Status : **Answered**
Chosen Option : **1**

Q.13 Select the word from the options which is exactly opposite in meaning to the bracketed word given in the sentence below.

Having an (active) youngster around the house can be quite wearing.

- Ans**
- ✗ 1. Streaming
 - ✗ 2. Progressive
 - ✓ 3. Abeyant
 - ✗ 4. Bustling

Question Type : **MCQ**
Question ID : **264330136606**
Option 1 ID : **264330535152**
Option 2 ID : **264330535151**
Option 3 ID : **264330535153**
Option 4 ID : **264330535154**
Status : **Answered**
Chosen Option : **3**

Q.14 Four words are given, out of which only one word is spelt correctly. Choose the correctly spelt word.

- Ans**
- ✓ 1. APPARENT
 - ✗ 2. PLEGE
 - ✗ 3. AQUIRE
 - ✗ 4. CALENDER

Question Type : **MCQ**
Question ID : **264330136609**
Option 1 ID : **264330535164**
Option 2 ID : **264330535166**
Option 3 ID : **264330535163**
Option 4 ID : **264330535165**
Status : **Answered**
Chosen Option : **2**

Q.15 Choose the word that is opposite in meaning to the given word.

Hyped

- Ans**
- 1. Upped
 - 2. Reduced
 - 3. Dilate
 - 4. Parlayed

Question Type : **MCQ**
Question ID : **264330134815**
Option 1 ID : **264330528199**
Option 2 ID : **264330528200**
Option 3 ID : **264330528202**
Option 4 ID : **264330528201**
Status : **Answered**
Chosen Option : **2**

Q.16 Fill in the blank with the most appropriate option.

She is _____, always submits her assignments on time.

- Ans**
- 1. tardy
 - 2. scheduled
 - 3. late
 - 4. punctual

Question Type : **MCQ**
Question ID : **264330136612**
Option 1 ID : **264330535175**
Option 2 ID : **264330535176**
Option 3 ID : **264330535178**
Option 4 ID : **264330535177**
Status : **Answered**
Chosen Option : **4**

Q.17 Select the word segment that substitutes (replaces) the bracketed word segment correctly and completes the sentence meaningfully. Select the option 'no correction required' if the sentence is correct as given.

(Those Mount Everests) is Earth's highest mountain above sea level, located in the sub-range of the Himalayas.

- Ans**
- 1. Mount Everest
 - 2. No correction required
 - 3. The Mount Everest
 - 4. A Mount Everest

Question Type : **MCQ**
Question ID : **264330136618**
Option 1 ID : **264330535199**
Option 2 ID : **264330535202**
Option 3 ID : **264330535200**
Option 4 ID : **264330535201**
Status : **Answered**
Chosen Option : **1**

Q.18 Fill in the blank with the most appropriate option.

The story _____ me to make up fancy names for myself.

- Ans
- 1. told
 - 2. activated
 - 3. inspired
 - 4. declared

Question Type : **MCQ**
Question ID : **264330136593**
Option 1 ID : **264330535105**
Option 2 ID : **264330535106**
Option 3 ID : **264330535104**
Option 4 ID : **264330535103**
Status : **Answered**
Chosen Option : **3**

Q.19 Select the most appropriate synonym of the given word.

Opposite

- Ans
- 1. Conspicuous
 - 2. Noticeable
 - 3. Similar
 - 4. Antagonistic

Question Type : **MCQ**
Question ID : **264330136603**
Option 1 ID : **264330535141**
Option 2 ID : **264330535142**
Option 3 ID : **264330535140**
Option 4 ID : **264330535139**
Status : **Answered**
Chosen Option : **4**

Q.20 Choose the word that can substitute the given group of words.

A place for wrestling

- Ans
- 1. Arena
 - 2. Premise
 - 3. Hangar
 - 4. Cemetery

Question Type : **MCQ**
Question ID : **264330135218**
Option 1 ID : **264330529796**
Option 2 ID : **264330529798**
Option 3 ID : **264330529797**
Option 4 ID : **264330529795**
Status : **Answered**
Chosen Option : **1**

Comprehension:

In the following passage some of the words have been deleted. Read the passage carefully and select the correct answer for the given blank out of the four alternatives.

Workers' compensation benefits in Pennsylvania should pay for your medical (1) _____ and a portion of your lost wages. However, you cannot be (2) _____ for pain and suffering or other non-financial damages that your illness or injury may (3) _____ you. A personal injury or wrongful death lawsuit, on the other hand, (4) _____ compensation for the ill worker or surviving family members. If someone (5) _____ your employer or a co-worker was to blame for your illness, you could pursue such a claim.

SubQuestion No : 21

Q.21 Select the most appropriate option to fill in blank number 1.

- Ans**
- 1. bills
 - 2. rules
 - 3. states
 - 4. regulations

Question Type : **MCQ**

Question ID : **264330134806**

Option 1 ID : **264330528163**

Option 2 ID : **264330528165**

Option 3 ID : **264330528164**

Option 4 ID : **264330528166**

Status : **Answered**

Chosen Option : **1**

Comprehension:

In the following passage some of the words have been deleted. Read the passage carefully and select the correct answer for the given blank out of the four alternatives.

Workers' compensation benefits in Pennsylvania should pay for your medical (1) _____ and a portion of your lost wages. However, you cannot be (2) _____ for pain and suffering or other non-financial damages that your illness or injury may (3) _____ you. A personal injury or wrongful death lawsuit, on the other hand, (4) _____ compensation for the ill worker or surviving family members. If someone (5) _____ your employer or a co-worker was to blame for your illness, you could pursue such a claim.

SubQuestion No : 22

Q.22 Select the most appropriate option to fill in blank number 2.

- Ans**
- 1. signed
 - 2. repudiated
 - 3. paid
 - 4. stiffed

Question Type : **MCQ**

Question ID : **264330134807**

Option 1 ID : **264330528169**

Option 2 ID : **264330528170**

Option 3 ID : **264330528168**

Option 4 ID : **264330528167**

Status : **Answered**

Chosen Option : **3**

Comprehension:

In the following passage some of the words have been deleted. Read the passage carefully and select the correct answer for the given blank out of the four alternatives.

Workers' compensation benefits in Pennsylvania should pay for your medical (1) _____ and a portion of your lost wages. However, you cannot be (2) _____ for pain and suffering or other non-financial damages that your illness or injury may (3) _____ you. A personal injury or wrongful death lawsuit, on the other hand, (4) _____ compensation for the ill worker or surviving family members. If someone (5) _____ your employer or a co-worker was to blame for your illness, you could pursue such a claim.

SubQuestion No : 23

Q.23 Select the most appropriate option to fill in blank number 3.

- Ans**
- 1. has caused
 - 2. causing
 - 3. have caused
 - 4. cause

Question Type : **MCQ**

Question ID : **264330134808**

Option 1 ID : **264330528172**

Option 2 ID : **264330528174**

Option 3 ID : **264330528173**

Option 4 ID : **264330528171**

Status : **Answered**

Chosen Option : **3**

Comprehension:

In the following passage some of the words have been deleted. Read the passage carefully and select the correct answer for the given blank out of the four alternatives.

Workers' compensation benefits in Pennsylvania should pay for your medical (1) _____ and a portion of your lost wages. However, you cannot be (2) _____ for pain and suffering or other non-financial damages that your illness or injury may (3) _____ you. A personal injury or wrongful death lawsuit, on the other hand, (4) _____ compensation for the ill worker or surviving family members. If someone (5) _____ your employer or a co-worker was to blame for your illness, you could pursue such a claim.

SubQuestion No : 24

Q.24 Select the most appropriate option to fill in blank number 4.

- Ans**
- 1. hovers
 - 2. allows
 - 3. boasts
 - 4. hosts

Question Type : **MCQ**

Question ID : **264330134809**

Option 1 ID : **264330528175**

Option 2 ID : **264330528178**

Option 3 ID : **264330528176**

Option 4 ID : **264330528177**

Status : **Answered**

Chosen Option : **2**

Comprehension:

In the following passage some of the words have been deleted. Read the passage carefully and select the correct answer for the given blank out of the four alternatives.

Workers' compensation benefits in Pennsylvania should pay for your medical (1) _____ and a portion of your lost wages. However, you cannot be (2) _____ for pain and suffering or other non-financial damages that your illness or injury may (3) _____ you. A personal injury or wrongful death lawsuit, on the other hand, (4) _____ compensation for the ill worker or surviving family members. If someone (5) _____ your employer or a co-worker was to blame for your illness, you could pursue such a claim.

SubQuestion No : 25

Q.25 Select the most appropriate option to fill in blank number 5.

- Ans**
- 1. beside
 - 2. beyond
 - 3. along
 - 4. besides

Question Type : **MCQ**

Question ID : **264330134810**

Option 1 ID : **264330528179**

Option 2 ID : **264330528182**

Option 3 ID : **264330528180**

Option 4 ID : **264330528181**

Status : **Answered**

Chosen Option : **4**

Join Qmaths on Social Media:



Telegram Channel

<https://t.me/qmaths>



Facebook Page

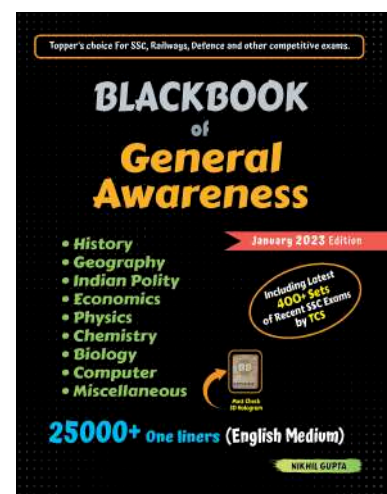

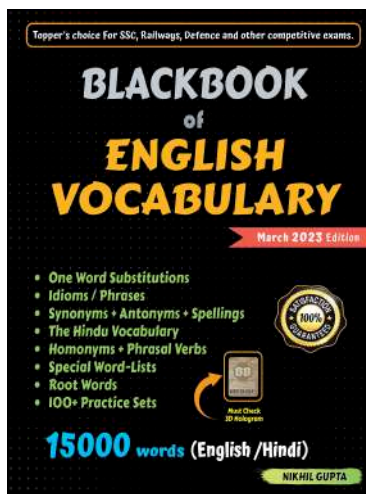
www.fb.com/Qmathsofficial/



YouTube Channel

www.youtube.com/QMaths_in/

Get the latest BlackBooks to Boost your Exam Preparation



Multi Tasking Non Technical Staff and Havaladar CBIC and CBN Examination 2022

Roll Number	KD Job Updates
Candidate Name	KD Job Updates
Venue Name	Jaipur Engineering College
Exam Date	19/05/2023
Exam Time	3:30 PM - 5:00 PM
Subject	MTS Non Tech Havaladar CBIC and CBN Examination 2022

Section : Numerical and Mathematical Ability

Q.1 एक व्यक्ति 8 km/hr की चाल से चलते हुए एक निश्चित दूरी को 5 घंटे 30 मिनट में तय करता है। यदि वह समान दूरी साइकिल से 4 घंटे में तय करता है, तो साइकिल की चाल क्या है?

- Ans 1. 11 km/hr
 2. 15 km/hr
 3. 9 km/hr
 4. 8 km/hr

Question Type : MCQ

Question ID : 264330137625

Option 1 ID : 264330539109

Option 2 ID : 264330539110

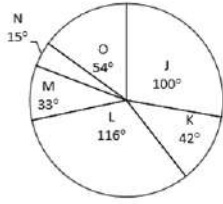
Option 3 ID : 264330539107

Option 4 ID : 264330539108

Status : Answered

Chosen Option : 1

Q.2 नीचे दिए गए वृत्त आलेख में 6 अलग-अलग वस्तुओं के मूल्य को दर्शाया गया है। इन सभी 6 वस्तुओं का कुल मूल्य Rs. 5760 है। इनमें से किसी एक विशिष्ट वस्तु के मूल्य को इन सभी 6 वस्तुओं के कुल मूल्य के सापेक्ष में डिग्री के रूप में दर्शाया गया है।



$P1 = K$ और L के औसत मूल्य और J और N के औसत मूल्य के बीच का अंतर।

$P2 = J, M, N$ और O का कुल मूल्य।

$(P1 + P2)$ का मान क्या है?

- Ans**
- ✓ 1. 3576
 - ✗ 2. 5426
 - ✗ 3. 3232
 - ✗ 4. 2426

Question Type : MCQ

Question ID : 264330137644

Option 1 ID : 264330539185

Option 2 ID : 264330539184

Option 3 ID : 264330539183

Option 4 ID : 264330539186

Status : Answered

Chosen Option : 1

Q.3 एक व्यक्ति ने अपनी बाइक 55% लाभ पर Rs. 18,600 में बेची। बाइक को किस मूल्य पर बेचने पर उसे 10% की हानि होगी?

- Ans**
- ✗ 1. Rs. 11,200
 - ✗ 2. Rs. 15,000
 - ✓ 3. Rs. 10,800
 - ✗ 4. Rs. 16,600

Question Type : MCQ

Question ID : 264330138419

Option 1 ID : 264330542285

Option 2 ID : 264330542284

Option 3 ID : 264330542283

Option 4 ID : 264330542286

Status : Answered

Chosen Option : 3

Q.4 एक व्यक्ति एक वस्तु को Rs. 325 में बेचकर 30 प्रतिशत का लाभ अर्जित करता है। 40 प्रतिशत का लाभ अर्जित करने के लिए उसे अपने विक्रय मूल्य में कितने प्रतिशत की वृद्धि करनी होगी?

- Ans**
- ✓ 1. 7.69 प्रतिशत
 - ✗ 2. 6.66 प्रतिशत
 - ✗ 3. 8.25 प्रतिशत
 - ✗ 4. 5.25 प्रतिशत

Question Type : **MCQ**

Question ID : **264330137631**

Option 1 ID : **264330539133**

Option 2 ID : **264330539132**

Option 3 ID : **264330539134**

Option 4 ID : **264330539131**

Status : **Answered**

Chosen Option : **1**

Q.5 X और Y मिलकर किसी कार्य को 10 दिनों में कर सकते हैं। Y और Z मिलकर उसी कार्य को 15 दिनों में कर सकते हैं। Z और X मिलकर उसी कार्य को 12 दिनों में कर सकते हैं। Z अकेले उसी कार्य को कितने दिनों में कर सकता है?

- Ans**
- ✗ 1. 50 दिन
 - ✗ 2. 80 दिन
 - ✗ 3. 60 दिन
 - ✓ 4. 40 दिन

Question Type : **MCQ**

Question ID : **264330137175**

Option 1 ID : **264330537346**

Option 2 ID : **264330537343**

Option 3 ID : **264330537345**

Option 4 ID : **264330537344**

Status : **Answered**

Chosen Option : **2**

Q.6 नीचे दी गई तालिका में पाँच वस्तुओं की माँग और उत्पादन को दर्शाया गया है।

वस्तुएँ	माँग	उत्पादन
P	400	500
Q	450	650
R	250	550
S	150	850
T	850	1050

निम्नलिखित में से कौन-सा कथन सही है?

- I. सभी वस्तुओं की औसत माँग का मान 420 है।
- II. P और Q का कुल उत्पादन, S और T के कुल उत्पादन का 52.60 प्रतिशत है।

Ans

1. I और II दोनों
2. न तो I और न ही II
3. केवल I
4. केवल II

Question Type : MCQ

Question ID : 264330137643

Option 1 ID : 264330539181

Option 2 ID : 264330539182

Option 3 ID : 264330539179

Option 4 ID : 264330539180

Status : Answered

Chosen Option : 3

Q.7 $\frac{2.5 \times 2.5 + 0.3 \times 0.3 + 5 \times 0.3}{1.6 \times 1.6 + 0.6 \times 0.6 - 1.2 \times 1.6}$ का मान क्या है?

Ans

1. 7.64
2. 7.84
3. 8.64
4. 2.8

Question Type : MCQ

Question ID : 264330137642

Option 1 ID : 264330539176

Option 2 ID : 264330539178

Option 3 ID : 264330539175

Option 4 ID : 264330539177

Status : Answered

Chosen Option : 2

Q.8 एक आयताकार फर्श का क्षेत्रफल 600 वर्ग फुट (square feet) है। यदि फर्श की लंबाई 30 फुट है, तो फर्श की चौड़ाई कितनी है?

- Ans
- ✓ 1. 20 फीट
 - ✗ 2. 60 फीट
 - ✗ 3. 10 फीट
 - ✗ 4. 30 फीट

Question Type : MCQ

Question ID : 264330133599

Option 1 ID : 264330523419

Option 2 ID : 264330523421

Option 3 ID : 264330523422

Option 4 ID : 264330523420

Status : Answered

Chosen Option : 1

Q.9 एक आयत की लंबाई और चौड़ाई के बीच का अंतर 40 मीटर है। यदि इसका परिमाण 96 मीटर है, तो आयत का क्षेत्रफल कितना होगा?

- Ans
- ✓ 1. 176 metre²
 - ✗ 2. 254 metre²
 - ✗ 3. 110 metre²
 - ✗ 4. 152 metre²

Question Type : MCQ

Question ID : 264330137190

Option 1 ID : 264330537403

Option 2 ID : 264330537406

Option 3 ID : 264330537405

Option 4 ID : 264330537404

Status : Answered

Chosen Option : 4

Q.10 सोनू और मोनू किसी काम को क्रमशः 8 दिनों और 12 दिनों में कर सकते हैं। यदि काम पूरा होने पर उन्हें Rs.8400 मिले, तो उसमें सोनू का हिस्सा कितना है?

- Ans
- ✓ 1. Rs.5040
 - ✗ 2. Rs.3480
 - ✗ 3. Rs.2360
 - ✗ 4. Rs.1680

Question Type : MCQ

Question ID : 264330133594

Option 1 ID : 264330523401

Option 2 ID : 264330523402

Option 3 ID : 264330523400

Option 4 ID : 264330523399

Status : Answered

Chosen Option : 1

Q.11 तीन अंकों की वह सबसे छोटी संख्या कौन-सी है जिसे 2, 3 और 4 से भाग देने पर प्रत्येक स्थिति में शेषफल 1 बचता है?

- Ans
- 1. 101
 - 2. 109
 - 3. 111
 - 4. 105

Question Type : MCQ
Question ID : 264330137640
Option 1 ID : 264330539168
Option 2 ID : 264330539169
Option 3 ID : 264330539167
Option 4 ID : 264330539170
Status : Answered
Chosen Option : 2

Q.12 यदि प्याज की कीमत Rs.60/kg से बढ़कर Rs.75/kg हो जाती है, तो एक परिवार को प्याज की खपत में कितने प्रतिशत की कमी करनी होगी ताकि उनका खर्च अपरिवर्तित रहे?

- Ans
- 1. 40 प्रतिशत
 - 2. 30 प्रतिशत
 - 3. 25 प्रतिशत
 - 4. 20 प्रतिशत

Question Type : MCQ
Question ID : 264330139081
Option 1 ID : 264330544934
Option 2 ID : 264330544933
Option 3 ID : 264330544931
Option 4 ID : 264330544932
Status : Answered
Chosen Option : 4

Q.13 एक राशि साधारण ब्याज पर 4 प्रतिशत वार्षिक दर से 2 वर्ष में Rs.12960 हो जाती है। वह राशि क्या है?

- Ans
- 1. Rs.11600
 - 2. Rs.10000
 - 3. Rs.12200
 - 4. Rs.12000

Question Type : MCQ
Question ID : 264330139086
Option 1 ID : 264330544952
Option 2 ID : 264330544951
Option 3 ID : 264330544954
Option 4 ID : 264330544953
Status : Answered
Chosen Option : 4

Q.14 दो संख्याओं का महत्तम समापवर्तक (HCF) और लघुत्तम समापवर्त्य (LCM) क्रमशः 20 और 2880 है। यदि उनमें से एक संख्या 180 है, तो दूसरी संख्या ज्ञात कीजिए?

- Ans
- 1. 350
 - 2. 300
 - 3. 320
 - 4. 660

Question Type : MCQ

Question ID : 264330141016

Option 1 ID : 264330552411

Option 2 ID : 264330552413

Option 3 ID : 264330552414

Option 4 ID : 264330552412

Status : Answered

Chosen Option : 3

Q.15 यदि $a : b : c = 5 : 6 : 4$, तो $(a + b + c) : (3a + b - c)$ का मान क्या है?

- Ans
- 1. 15 : 17
 - 2. 18 : 19
 - 3. 25 : 23
 - 4. 18 : 23

Question Type : MCQ

Question ID : 264330137632

Option 1 ID : 264330539135

Option 2 ID : 264330539136

Option 3 ID : 264330539137

Option 4 ID : 264330539138

Status : Answered

Chosen Option : 1

Q.16 एक कार की औसत चाल 1500 मीटर/मिनट है। एक धावक (sprinter) 30 सेकंड में 200 मीटर की दूरी तय करता है। कार की चाल और धावक की चाल में कितना अंतर है?

- Ans
- 1. $(65/3)$ m/s
 - 2. $(54/11)$ m/s
 - 3. $(55/3)$ m/s
 - 4. $(64/3)$ m/s

Question Type : MCQ

Question ID : 264330138417

Option 1 ID : 264330542278

Option 2 ID : 264330542276

Option 3 ID : 264330542275

Option 4 ID : 264330542277

Status : Answered

Chosen Option : 3

Q.17 एक व्यापारी ने Rs. 1800 के अंकित मूल्य वाले ट्रॉली बैग पर 30 प्रतिशत की छूट दी और 20 प्रतिशत का लाभ अर्जित किया। ट्रॉली बैग का क्रय मूल्य क्या है?

- Ans
- 1. Rs. 1440
 - 2. Rs. 1050
 - 3. Rs. 1230
 - 4. Rs. 1160

Question Type : MCQ

Question ID : 264330137636

Option 1 ID : 264330539154

Option 2 ID : 264330539151

Option 3 ID : 264330539153

Option 4 ID : 264330539152

Status : Answered

Chosen Option : 2

Q.18 5 और 29 के बीच की सभी सम संख्याओं का औसत क्या होगा?

- Ans
- 1. 19
 - 2. 14
 - 3. 17
 - 4. 22

Question Type : MCQ

Question ID : 264330137626

Option 1 ID : 264330539112

Option 2 ID : 264330539114

Option 3 ID : 264330539113

Option 4 ID : 264330539111

Status : Answered

Chosen Option : 3

Q.19 64 लीटर मिश्रण में ऐल्कोहॉल (alcohol) और पानी का अनुपात क्रमशः 1 : 3 है। इसमें से 32 लीटर मिश्रण को निकालकर उसके स्थान पर 16 लीटर पानी डाल दिया जाता है। ऐल्कोहॉल और पानी का नया अनुपात क्रमशः क्या है?

- Ans
- 1. 5 : 12
 - 2. 3 : 10
 - 3. 2 : 7
 - 4. 1 : 5

Question Type : MCQ

Question ID : 264330137633

Option 1 ID : 264330539139

Option 2 ID : 264330539140

Option 3 ID : 264330539141

Option 4 ID : 264330539142

Status : Answered

Chosen Option : 4

Q.20 सुमित ने राम को Rs.5000, 2 वर्ष के लिए और मयूर को Rs.8000, 3 वर्ष के लिए समान ब्याज दर पर साधारण ब्याज पर ऋण पर दिए और उन दोनों से ब्याज के रूप में कुल Rs.1700 प्राप्त किए। वार्षिक ब्याज की दर क्या है?

- Ans**
- 1. 8% प्रति वर्ष
 - 2. 5% प्रति वर्ष
 - 3. 10% प्रति वर्ष
 - 4. 4% प्रति वर्ष

Question Type : **MCQ**
Question ID : **264330133591**
Option 1 ID : **264330523388**
Option 2 ID : **264330523387**
Option 3 ID : **264330523390**
Option 4 ID : **264330523389**
Status : **Answered**
Chosen Option : **2**

Section : Reasoning Ability and Problem Solving

Q.1 तीन कथन दिए गए हैं और दो निष्कर्ष I और II दिए गए हैं। कथनों को सत्य मानते हुए, चाहे वे सामान्यतः ज्ञात तथ्यों से अलग प्रतीत होते हों, निश्चय कीजिए कि कौन-सा निष्कर्ष तार्किक रूप से कथनों के अनुसार है।

कथन:

सभी ईंटें, दीवार हैं।

कुछ सड़कें, दीवार हैं।

सभी पत्थर, दीवार हैं।

निष्कर्ष:

I. कुछ पत्थर, दीवारें हैं।

II. कुछ दीवारें, ईंटें हैं।

- Ans**
- 1. दोनों निष्कर्ष I और II कथनों के अनुसार हैं
 - 2. सिर्फ निष्कर्ष I कथनों के अनुसार है
 - 3. सिर्फ निष्कर्ष II कथनों के अनुसार है
 - 4. निष्कर्ष I और II में से कोई भी कथनों के अनुसार नहीं है

Question Type : **MCQ**
Question ID : **264330137549**
Option 1 ID : **264330538805**
Option 2 ID : **264330538803**
Option 3 ID : **264330538804**
Option 4 ID : **264330538806**
Status : **Answered**
Chosen Option : **1**

Q.2 दिए गए समीकरण को सही करने के लिए किन दो संख्याओं को आपस में बदला जाना चाहिए?
 $15 - 24 + 63 \div 7 \times 2 = 9$

- Ans
- 1. 63 और 9
 - 2. 24 और 9
 - 3. 7 और 63
 - 4. 63 और 24

Question Type : MCQ
Question ID : 264330137554
Option 1 ID : 264330538825
Option 2 ID : 264330538826
Option 3 ID : 264330538823
Option 4 ID : 264330538824
Status : Answered
Chosen Option : 2

Q.3 एक निश्चित कूट भाषा में, 'LORD' को '5409' लिखा जाता है, 'MODE' को '4685' लिखा जाता है, 'LOAD' को '5047' लिखा जाता है। उस कूट भाषा में 'M' को कैसे लिखा जाएगा?

- Ans
- 1. 6
 - 2. 5
 - 3. 7
 - 4. 4

Question Type : MCQ
Question ID : 264330138855
Option 1 ID : 264330544028
Option 2 ID : 264330544029
Option 3 ID : 264330544030
Option 4 ID : 264330544027
Status : Answered
Chosen Option : 1

Q.4 उस विकल्प को चुनिए जो तीसरे शब्द से ठीक उसी तरह संबंधित है जिस तरह दूसरा शब्द पहले शब्द से संबंधित है।
शिशु हत्या : शिशु :: पितृहत्या : ?

- Ans
- 1. पति
 - 2. माँ
 - 3. पत्नी
 - 4. पिता

Question Type : MCQ
Question ID : 264330137540
Option 1 ID : 264330538770
Option 2 ID : 264330538768
Option 3 ID : 264330538769
Option 4 ID : 264330538767
Status : Answered
Chosen Option : 4

Q.5 छः व्यक्ति P, Q, R, S, T और U दो समानांतर पंक्तियों में इस प्रकार बैठे हैं कि उनमें से तीन उत्तर की ओर मुख करके एक पंक्ति में बैठे हैं और अन्य तीन दक्षिण की ओर मुख करके दूसरी पंक्ति में बैठे हैं। P का मुख दक्षिण की ओर है। U, R के सम्मुख बैठा है। R का मुख P के समान दिशा की ओर है। S का मुख दक्षिण की ओर नहीं है। T उत्तर की ओर मुख करके बैठा है लेकिन P के सम्मुख नहीं बैठा है। T के सम्मुख कौन बैठा है?

- Ans
- 1. R
 - 2. S
 - 3. Q
 - 4. P

Question Type : MCQ

Question ID : 264330137545

Option 1 ID : 264330538788

Option 2 ID : 264330538790

Option 3 ID : 264330538789

Option 4 ID : 264330538787

Status : Answered

Chosen Option : 3

Q.6 उस विकल्प को चुनिए जो छठी संख्या से ठीक उसी प्रकार संबंधित है जिस प्रकार पहली संख्या दूसरी संख्या से संबंधित है और तीसरी संख्या चौथी संख्या से संबंधित है।
8 : 72 :: 10 : 110 :: ? : 210

- Ans
- 1. 14
 - 2. 18
 - 3. 12
 - 4. 16

Question Type : MCQ

Question ID : 264330138864

Option 1 ID : 264330544064

Option 2 ID : 264330544066

Option 3 ID : 264330544063

Option 4 ID : 264330544065

Status : Answered

Chosen Option : 1

Q.7 निम्नलिखित प्रश्न में, दी गई श्रृंखला में लुप्त संख्या को चुनिए।
110, 131, 153, 176, 200, ?

- Ans
- 1. 218
 - 2. 224
 - 3. 220
 - 4. 225

Question Type : MCQ

Question ID : 264330138862

Option 1 ID : 264330544057

Option 2 ID : 264330544058

Option 3 ID : 264330544055

Option 4 ID : 264330544056

Status : Answered

Chosen Option : 4

Q.8 दिए गए समीकरण को सही करने के लिए किन दो चिन्हों को आपस में बदला जाना चाहिए?

$$5 \times 6 - 7 + 24 \div 12 = 35$$

Ans 1. + और =

2. + और -

3. \times और -

4. = और -

Question Type : MCQ

Question ID : 264330133336

Option 1 ID : 264330522379

Option 2 ID : 264330522381

Option 3 ID : 264330522382

Option 4 ID : 264330522380

Status : Answered

Chosen Option : 2

Q.9 दो कथन दिए गए हैं और दो निष्कर्ष I और II दिए गए हैं। कथनों को सत्य मानते हुए, चाहे वे सामान्यतः ज्ञात तथ्यों से अलग प्रतीत होते हों, निश्चय कीजिए कि कौन-सा निष्कर्ष तार्किक रूप से कथनों के अनुसार है।

कथन:

कुछ फल, मीठे हैं।

सभी मीठे, खड़े हैं।

निष्कर्ष:

I. कुछ फल, खड़े हैं।

II. कुछ मीठे, फल नहीं हैं।

Ans 1. निष्कर्ष I और II में से कोई भी कथनों के अनुसार नहीं है

2. दोनों निष्कर्ष I और II कथनों के अनुसार हैं

3. सिर्फ निष्कर्ष I कथनों के अनुसार है

4. सिर्फ निष्कर्ष II कथनों के अनुसार है

Question Type : MCQ

Question ID : 264330137548

Option 1 ID : 264330538802

Option 2 ID : 264330538801

Option 3 ID : 264330538799

Option 4 ID : 264330538800

Status : Answered

Chosen Option : 3

Q.10 छः मित्र अंशु, अमन, आदर्श, आकाश, अर्पित और अंकित एक पंक्ति में दक्षिण की ओर मुख करके बैठे हैं। अर्पित, आदर्श के ठीक दाईं ओर बैठा है। अंशु, अर्पित के दाईं ओर चौथे स्थान पर बैठा है। आकाश, अमन के बाईं ओर दूसरे स्थान पर बैठा है। अंशु के बाईं ओर दूसरे स्थान पर कौन बैठा है?

- Ans
- 1. अमन
 - 2. अंकित
 - 3. आकाश
 - 4. आदर्श

Question Type : MCQ
Question ID : 264330137546
Option 1 ID : 264330538791
Option 2 ID : 264330538793
Option 3 ID : 264330538794
Option 4 ID : 264330538792
Status : Answered
Chosen Option : 2

Q.11 एक निश्चित कूट भाषा में, 'BOIL' को '152' और 'HOT' को '129' लिखा जाता है। उस भाषा में 'HEATING' को कैसे लिखा जाएगा ?

- Ans
- 1. 844
 - 2. 484
 - 3. 488
 - 4. 448

Question Type : MCQ
Question ID : 264330134959
Option 1 ID : 264330528774
Option 2 ID : 264330528771
Option 3 ID : 264330528772
Option 4 ID : 264330528773
Status : Answered
Chosen Option : 4

Q.12 सात लड़कों M, N, O, P, Q, R और S के कद निम्न प्रकार दिए गए हैं। केवल एक लड़के का कद Q से छोटा है। S सबसे लंबा है। R, P से लंबा है लेकिन O से छोटा है। P का कद सबसे छोटा नहीं है। N का कद केवल एक लड़के से छोटा है। लड़कों में तीसरा सबसे लंबा कौन है?

- Ans
- 1. O
 - 2. R
 - 3. P
 - 4. N

Question Type : MCQ
Question ID : 264330137547
Option 1 ID : 264330538796
Option 2 ID : 264330538798
Option 3 ID : 264330538795
Option 4 ID : 264330538797
Status : Answered
Chosen Option : 1

Q.13 उस विकल्प आकृति को चुनिए जिसमें दी गई आकृति इसके भाग के रूप में निहित है। (घूर्णन की अनुमति नहीं है)

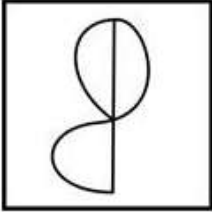


Ans

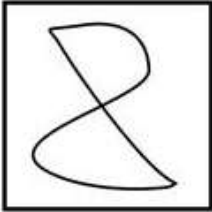
✗ 1.



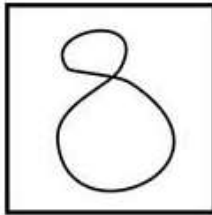
✗ 2.



✗ 3.



✓ 4.



Question Type : MCQ

Question ID : 264330137556

Option 1 ID : 264330538832

Option 2 ID : 264330538834

Option 3 ID : 264330538833

Option 4 ID : 264330538831

Status : Answered

Chosen Option : 4

Q.14 एक निश्चित कूट भाषा में, 'ENERGY' को 'ZGSEOE' लिखा जाता है। उस कूट भाषा में 'FORMAL' को कैसे लिखा जाएगा?

Ans

✓ 1. MANRPF

✗ 2. BMAPRF

✗ 3. NFRPFL

✗ 4. NAMRPF

Question Type : MCQ

Question ID : 264330138567

Option 1 ID : 264330542876

Option 2 ID : 264330542877

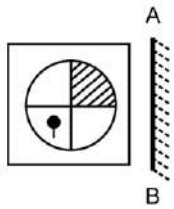
Option 3 ID : 264330542878

Option 4 ID : 264330542875

Status : Answered

Chosen Option : 1

Q.15 दी गई आकृति के उस सही दर्पण प्रतिबिंब को चुनिए, जो नीचे दर्शाए गए अनुसार दर्पण को AB पर रखने पर बनेगा।



Ans

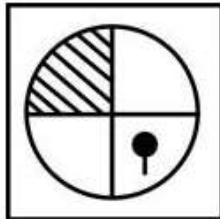
✗ 1.



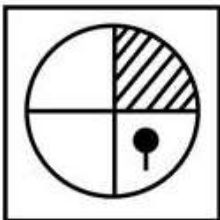
✗ 2.



✓ 3.



✗ 4.



Question Type : MCQ

Question ID : 264330137557

Option 1 ID : 264330538835

Option 2 ID : 264330538837

Option 3 ID : 264330538836

Option 4 ID : 264330538838

Status : Answered

Chosen Option : 3

Q.16 दी गई श्रृंखला में निम्नलिखित में से कौन-सी संख्या प्रश्न चिन्ह (?) के स्थान पर आएगी?
38, 17, -2, -19, -34, -47, -58, ?

- Ans
- 1. -72
 - 2. -60
 - 3. -74
 - 4. -67

Question Type : MCQ
Question ID : 264330137551
Option 1 ID : 264330538811
Option 2 ID : 264330538813
Option 3 ID : 264330538814
Option 4 ID : 264330538812
Status : Answered
Chosen Option : 4

Q.17 दिए गए पैटर्न का ध्यानपूर्वक अध्ययन कीजिए और उस संख्या को चुनिए जो इसमें प्रश्न चिन्ह (?) के स्थान पर आ सकती है?
प्रथम पंक्ति- 38, 43, 48
द्वितीय पंक्ति- 76, 81, 86
तृतीय पंक्ति- 69, 74, ?

- Ans
- 1. 70
 - 2. 84
 - 3. 75
 - 4. 79

Question Type : MCQ
Question ID : 264330137553
Option 1 ID : 264330538819
Option 2 ID : 264330538821
Option 3 ID : 264330538822
Option 4 ID : 264330538820
Status : Answered
Chosen Option : 4

Q.18 उस विकल्प को चुनिए जो तीसरे अक्षर-समूह से ठीक उसी तरह संबंधित है जिस तरह दूसरा अक्षर-समूह पहले अक्षर-समूह से संबंधित है।
MEJ : PFK :: SQK : ?

- Ans
- 1. VRL
 - 2. VTL
 - 3. SLV
 - 4. LSV

Question Type : MCQ
Question ID : 264330137539
Option 1 ID : 264330538764
Option 2 ID : 264330538766
Option 3 ID : 264330538763
Option 4 ID : 264330538765
Status : Answered
Chosen Option : 1

Q.19 दी गई श्रृंखला में निम्नलिखित में से कौन-सा अक्षर प्रश्न चिन्ह (?) के स्थान पर आएगा?
U, R, O, L, I, F, ?

- Ans
- 1. D
 - 2. F
 - 3. A
 - 4. C

Question Type : MCQ

Question ID : 264330137537

Option 1 ID : 264330538756

Option 2 ID : 264330538757

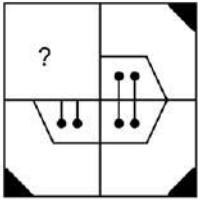
Option 3 ID : 264330538758

Option 4 ID : 264330538755

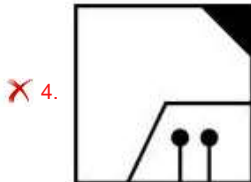
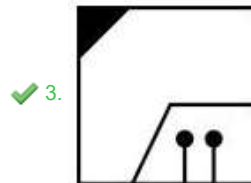
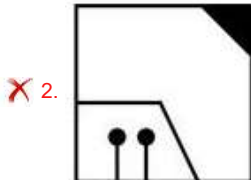
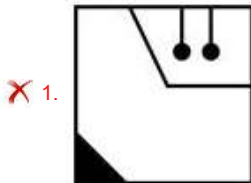
Status : Answered

Chosen Option : 4

Q.20 उस विकल्प आकृति को चुनिए जो नीचे दी गई आकृति में पैटर्न को पूरा करने के लिए प्रश्न चिन्ह (?) के स्थान पर आएगी। (घूर्णन की अनुमति नहीं है)।



Ans



Question Type : MCQ

Question ID : 264330137558

Option 1 ID : 264330538842

Option 2 ID : 264330538840

Option 3 ID : 264330538839

Option 4 ID : 264330538841

Status : Answered

Chosen Option : 3

Q.1 निम्नलिखित में से कौन-सा उपन्यास विक्रम सेठ के उल्लेखनीय कार्यों में से एक है?

- Ans
- 1. शो बिज़नेस (Show Business)
 - 2. द ग्लास पैलेस (The Glass Palace)
 - 3. एंशिअंट इंडिया (Ancient India)
 - 4. अ सूटेबल बॉय (A Suitable Boy)

Question Type : MCQ

Question ID : 264330138629

Option 1 ID : 264330543124

Option 2 ID : 264330543125

Option 3 ID : 264330543123

Option 4 ID : 264330543126

Status : Answered

Chosen Option : 4

Q.2 निम्नलिखित में से किस अनुच्छेद में, "मौलिक अधिकारों के साथ असंगत या उनका अल्पीकरण करने वाले क़ानूनों" का उल्लेख किया गया है?

- Ans
- 1. अनुच्छेद 14
 - 2. अनुच्छेद 12
 - 3. अनुच्छेद 13
 - 4. अनुच्छेद 15

Question Type : MCQ

Question ID : 264330134631

Option 1 ID : 264330527481

Option 2 ID : 264330527479

Option 3 ID : 264330527480

Option 4 ID : 264330527482

Status : Answered

Chosen Option : 3

Q.3 _____ के शक्तिशाली गुरुत्वाकर्षण बल के कारण पृथ्वी की सतह पर ज्वार-भाटे आते हैं।

- Ans
- 1. सूर्य, चंद्रमा और अन्य ग्रह
 - 2. केवल सूर्य एवं चंद्रमा
 - 3. केवल सूर्य
 - 4. केवल चंद्रमा

Question Type : MCQ

Question ID : 264330138936

Option 1 ID : 264330544354

Option 2 ID : 264330544353

Option 3 ID : 264330544351

Option 4 ID : 264330544352

Status : Answered

Chosen Option : 2

Q.4 लड़कों में बढ़ता हुआ 'स्वरयंत्र' गले के सामने की ओर सुस्पष्ट उभरे भाग के रूप में दिखाई देता है, जिसे _____ कहते हैं।

- Ans
- 1. कॉर्न (Corn)
 - 2. एड्रिनेलिन (Adrenalin)
 - 3. ग्रसिका (Gullet)
 - 4. कंठमणि (Adam's apple)

Question Type : MCQ
Question ID : 264330138935
Option 1 ID : 264330544349
Option 2 ID : 264330544347
Option 3 ID : 264330544350
Option 4 ID : 264330544348
Status : Answered
Chosen Option : 4

Q.5 निम्नलिखित में से कौन-सा ज्वलनशील पदार्थ का एक उदाहरण नहीं है?

- Ans
- 1. एलपीजी (LPG)
 - 2. पेट्रोल (Petrol)
 - 3. काँच (Glass)
 - 4. ऐल्कोहॉल (Alcohol)

Question Type : MCQ
Question ID : 264330138937
Option 1 ID : 264330544357
Option 2 ID : 264330544355
Option 3 ID : 264330544356
Option 4 ID : 264330544358
Status : Answered
Chosen Option : 3

Q.6 वर्ष 2011 की जनगणना के अनुसार, 2001-11 के बीच ऋणात्मक दशकीय जनसंख्या वृद्धि दर वाला एकमात्र भारतीय राज्य _____ है।

- Ans
- 1. सिक्किम
 - 2. उत्तराखंड
 - 3. नागालैंड
 - 4. गोवा

Question Type : MCQ
Question ID : 264330138290
Option 1 ID : 264330541769
Option 2 ID : 264330541770
Option 3 ID : 264330541767
Option 4 ID : 264330541768
Status : Answered
Chosen Option : 1

Q.7 निम्नलिखित में से कौन-सी नृत्य शैली छत्तीसगढ़ से संबंधित नहीं है?

- Ans
- 1. पंथी
 - 2. राउत नाचा
 - 3. गेड़ी
 - 4. कजरी

Question Type : MCQ
Question ID : 264330137713
Option 1 ID : 264330539461
Option 2 ID : 264330539462
Option 3 ID : 264330539459
Option 4 ID : 264330539460
Status : Answered
Chosen Option : 3

Q.8 मुद्रा गुणक (Money multiplier) की गणना के लिए निम्नलिखित में से किस मौद्रिक लिखत का उपयोग किया जाता है?

- Ans
- 1. आरक्षित नकदी निधि अनुपात
 - 2. रिवर्स रेपो दर
 - 3. रेपो दर
 - 4. बैंक दर

Question Type : MCQ
Question ID : 264330138634
Option 1 ID : 264330543144
Option 2 ID : 264330543145
Option 3 ID : 264330543143
Option 4 ID : 264330543146
Status : Answered
Chosen Option : 3

Q.9 अक्टूबर 2022 में प्रधानमंत्री भारतीय जन उर्वरक परियोजना- "एक देश-एक उर्वरक (One Nation One Fertiliser)" का शुभारंभ किसने किया?

- Ans
- 1. नरेंद्र सिंह तोमर
 - 2. स्मृति ईरानी
 - 3. अमित शाह
 - 4. नरेंद्र मोदी

Question Type : MCQ
Question ID : 264330137711
Option 1 ID : 264330539454
Option 2 ID : 264330539453
Option 3 ID : 264330539452
Option 4 ID : 264330539451
Status : Answered
Chosen Option : 1

Q.10 भारतीय संविधान का अनुच्छेद 23-24 निम्नलिखित में से किस मौलिक अधिकार से संबंधित है?

- Ans
- 1. स्वतंत्रता का अधिकार
 - 2. समानता का अधिकार
 - 3. शोषण के विरुद्ध अधिकार
 - 4. संवैधानिक उपचारों का अधिकार

Question Type : MCQ

Question ID : 264330137731

Option 1 ID : 264330539534

Option 2 ID : 264330539532

Option 3 ID : 264330539533

Option 4 ID : 264330539531

Status : Answered

Chosen Option : 3

Q.11 राष्ट्रीय डोपिंग-रोधी विधेयक (National Anti-Doping Bill), 2021 भारत के _____ क्षेत्र को लक्षित करता है।

- Ans
- 1. कृषि
 - 2. वित्त
 - 3. खेल
 - 4. सैन्य

Question Type : MCQ

Question ID : 264330133649

Option 1 ID : 264330523619

Option 2 ID : 264330523621

Option 3 ID : 264330523620

Option 4 ID : 264330523622

Status : Answered

Chosen Option : 3

Q.12 विधवा पुनर्विवाह संघ (1861) के संस्थापक कौन थे?

- Ans
- 1. राजा राममोहन राय
 - 2. आर.जी. भंडारकर
 - 3. आत्माराम पांडुरंग
 - 4. महादेव गोविंद रानाडे

Question Type : MCQ

Question ID : 264330137727

Option 1 ID : 264330539515

Option 2 ID : 264330539518

Option 3 ID : 264330539517

Option 4 ID : 264330539516

Status : Answered

Chosen Option : 1

Q.13 वर्ष 2015 के साल्ज़बर्ग महोत्सव (Salzburg Festival) में नृत्य प्रदर्शन करने के लिए किसे एक राजसी भारतीय शास्त्रीय नर्तक के रूप में जाना जाता है?

- Ans
- 1. कुमारी कमला
 - 2. वी.सत्यनारायण सरमा
 - 3. तंजौर बालासरस्वती
 - 4. अलारमेल वल्ली

Question Type : MCQ
Question ID : 264330138631
Option 1 ID : 264330543133
Option 2 ID : 264330543131
Option 3 ID : 264330543134
Option 4 ID : 264330543132
Status : Not Answered
Chosen Option : --

Q.14 अनेक वर्षों तक भटकने के बाद बाबर ने सन् _____ में काबुल पर कब्ज़ा कर लिया।

- Ans
- 1. 1501
 - 2. 1503
 - 3. 1504
 - 4. 1502

Question Type : MCQ
Question ID : 264330138943
Option 1 ID : 264330544379
Option 2 ID : 264330544381
Option 3 ID : 264330544382
Option 4 ID : 264330544380
Status : Answered
Chosen Option : 4

Q.15 _____ के सदस्य सामान्यतः लाल शैवाल कहलाते हैं।

- Ans
- 1. क्लोरोफाइसी (chlorophyceae)
 - 2. रोडोफाइसी (rhodophyceae)
 - 3. फीयोफाइसी (phaeophyceae)
 - 4. पोएसी (poaceae)

Question Type : MCQ
Question ID : 264330137717
Option 1 ID : 264330539476
Option 2 ID : 264330539477
Option 3 ID : 264330539475
Option 4 ID : 264330539478
Status : Not Answered
Chosen Option : --

Q.16 निम्नलिखित में से कौन-सा "कृषि आधारित उद्योगों (agro based industries)" का एक उदाहरण नहीं है?

- Ans
- 1. वनस्पति तेल उद्योग
 - 2. लोहा एवं इस्पात उद्योग
 - 3. चमड़ा उद्योग
 - 4. सूती वस्त्र उद्योग

Question Type : MCQ
Question ID : 264330138641
Option 1 ID : 264330543171
Option 2 ID : 264330543173
Option 3 ID : 264330543174
Option 4 ID : 264330543172
Status : Answered
Chosen Option : 2

Q.17 1770 में भारत के बंगाल में किस घटना के परिणामस्वरूप एक तिहाई आबादी की मृत्यु हो गई थी?

- Ans
- 1. नरसंहार
 - 2. गुलामी
 - 3. अकाल
 - 4. रासायनिक विस्फोट

Question Type : MCQ
Question ID : 264330133663
Option 1 ID : 264330523676
Option 2 ID : 264330523678
Option 3 ID : 264330523675
Option 4 ID : 264330523677
Status : Answered
Chosen Option : 3

Q.18 कुश्ती मैट की मोटाई _____ सेंटीमीटर के बीच होनी चाहिए।

- Ans
- 1. 5 से 7
 - 2. 3 से 5
 - 3. 9 से 11
 - 4. 7 से 9

Question Type : MCQ
Question ID : 264330138925
Option 1 ID : 264330544308
Option 2 ID : 264330544307
Option 3 ID : 264330544310
Option 4 ID : 264330544309
Status : Answered
Chosen Option : 4

Q.19 कर्नाटक का अलमट्टी बाँध निम्नलिखित में से किस नदी पर बना है?

- Ans
- 1. सतलुज
 - 2. पेरियार
 - 3. कावेरी
 - 4. कृष्णा

Question Type : MCQ

Question ID : 264330137721

Option 1 ID : 264330539493

Option 2 ID : 264330539494

Option 3 ID : 264330539491

Option 4 ID : 264330539492

Status : Answered

Chosen Option : 2

Q.20 दिल्ली में खिलजी वंश के किस स्मारक में लाल बलुआ पत्थर का उपयोग हुआ है?

- Ans
- 1. विक्टोरिया मेमोरियल
 - 2. अलाई-दरवाजा
 - 3. मोती मस्जिद
 - 4. चारमीनार

Question Type : MCQ

Question ID : 264330133652

Option 1 ID : 264330523634

Option 2 ID : 264330523631

Option 3 ID : 264330523632

Option 4 ID : 264330523633

Status : Answered

Chosen Option : 2

Q.21 निम्नलिखित में से किसने फीफा अंडर-17 महिला विश्व कप 2022 जीता?

- Ans
- 1. जापान
 - 2. न्यूज़ीलैंड
 - 3. कोलंबिया
 - 4. स्पेन

Question Type : MCQ

Question ID : 264330137733

Option 1 ID : 264330539542

Option 2 ID : 264330539541

Option 3 ID : 264330539539

Option 4 ID : 264330539540

Status : Answered

Chosen Option : 4

Q.22 गंगूबाई हंगल, हिंदुस्तानी शास्त्रीय संगीत की ख्याल (Khayal) शैली की _____ राज्य की एक भारतीय गायिका थीं, जो अपनी गहरी और दमदार आवाज के लिए जानी जाती थीं।

- Ans
- 1. तमिलनाडु
 - 2. केरल
 - 3. आंध्रप्रदेश
 - 4. कर्नाटक

Question Type : MCQ
Question ID : 264330137729
Option 1 ID : 264330539523
Option 2 ID : 264330539525
Option 3 ID : 264330539526
Option 4 ID : 264330539524
Status : Not Answered
Chosen Option : --

Q.23 निम्नलिखित में से कौन चंद्रगुप्त मौर्य की मृत्यु के बाद मौर्य साम्राज्य के सिंहासन पर बैठा?

- Ans
- 1. अशोक
 - 2. बिन्दुसार
 - 3. दशरथ
 - 4. चंद्रगुप्त - द्वितीय

Question Type : MCQ
Question ID : 264330137724
Option 1 ID : 264330539503
Option 2 ID : 264330539504
Option 3 ID : 264330539506
Option 4 ID : 264330539505
Status : Answered
Chosen Option : 2

Q.24 त्रिपुरा की "खारची पूजा (Kharchi Pooja)" एक हिंदू त्योहार है जिसमें पृथ्वी सहित _____ हिंदू देवताओं की पूजा की जाती है।

- Ans
- 1. 14
 - 2. 12
 - 3. 8
 - 4. 5

Question Type : MCQ
Question ID : 264330137714
Option 1 ID : 264330539463
Option 2 ID : 264330539464
Option 3 ID : 264330539465
Option 4 ID : 264330539466
Status : Answered
Chosen Option : 1

Q.25 राज्यसभा द्वारा एक धन विधेयक को _____ दिनों के भीतर या तो सिफारिशों के साथ या सिफारिशों के बिना लोकसभा में वापस भेजना अनिवार्य होता है।

- Ans
- 1. 8
 - 2. 10
 - 3. 14
 - 4. 21

Question Type : MCQ
Question ID : 264330137732
Option 1 ID : 264330539536
Option 2 ID : 264330539537
Option 3 ID : 264330539538
Option 4 ID : 264330539535
Status : Answered
Chosen Option : 3

Section : English Language and Comprehension

Q.1 Select the most appropriate option to fill in the blank.
Computers would replace the _____ technique of creating an image on paper, transferring it to transparent cells and again onto film.

- Ans
- 1. audacious
 - 2. austere
 - 3. archaic
 - 4. assuage

Question Type : MCQ
Question ID : 264330136063
Option 1 ID : 264330533070
Option 2 ID : 264330533069
Option 3 ID : 264330533067
Option 4 ID : 264330533068
Status : Answered
Chosen Option : 3

Q.2 Identify the segment that contains a grammatical error. If there is no error, select 'No error'
An appeasements policies / were all but a sham to misdirect / the local groups.

- Ans
- 1. An appeasements policies
 - 2. the local groups.
 - 3. were all but a sham to misdirect
 - 4. No error

Question Type : MCQ
Question ID : 264330136059
Option 1 ID : 264330533051
Option 2 ID : 264330533053
Option 3 ID : 264330533052
Option 4 ID : 264330533054
Status : Answered
Chosen Option : 1

Q.3 Select the most appropriate meaning of the bracketed idiom in the given sentence.

That were remarks made (in the heat of the moment).

- Ans**
- 1. To be dismissed from your job
 - 2. To exert all efforts
 - 3. At time when you cannot think carefully
 - 4. To present a counter argument

Question Type : **MCQ**

Question ID : **264330136078**

Option 1 ID : **264330533126**

Option 2 ID : **264330533124**

Option 3 ID : **264330533125**

Option 4 ID : **264330533123**

Status : **Answered**

Chosen Option : **2**

Q.4 Select the most appropriate option to substitute the bracketed segment in the given sentence. If there is no need to substitute it, select 'no substitution required'.

(Because he has been in custody from last July,) Pickard will now be released in four months.

- Ans**
- 1. Because he had been under custody from last July,
 - 2. No substitution required
 - 3. Because he had been in custody from last July,
 - 4. Because he has been in custody since last July,

Question Type : **MCQ**

Question ID : **264330136088**

Option 1 ID : **264330533165**

Option 2 ID : **264330533166**

Option 3 ID : **264330533163**

Option 4 ID : **264330533164**

Status : **Answered**

Chosen Option : **4**

Q.5 Choose the word that is opposite in meaning to the given word.
Desert

- Ans**
- 1. Bereft
 - 2. Forlorn
 - 3. Migrate
 - 4. Populate

Question Type : **MCQ**

Question ID : **264330134312**

Option 1 ID : **264330526240**

Option 2 ID : **264330526239**

Option 3 ID : **264330526242**

Option 4 ID : **264330526241**

Status : **Answered**

Chosen Option : **4**

Q.6 Select the most appropriate antonym to substitute the bracketed word in the given sentence.
She ventured to go back to the tree of the (tryst), the mulberry with the shining white fruit.

- Ans**
- 1. Separation
 - 2. Rendezvous
 - 3. Engagement
 - 4. Date

Question Type : **MCQ**
Question ID : **264330136076**
Option 1 ID : **264330533116**
Option 2 ID : **264330533117**
Option 3 ID : **264330533118**
Option 4 ID : **264330533115**
Status : **Answered**
Chosen Option : **3**

Q.7 Choose the word that can substitute the given group of words.
A person holding conversational belief especially in matter of religion

- Ans**
- 1. Prudent
 - 2. Orthodox
 - 3. Compere
 - 4. Arsonist

Question Type : **MCQ**
Question ID : **264330136887**
Option 1 ID : **264330536234**
Option 2 ID : **264330536233**
Option 3 ID : **264330536232**
Option 4 ID : **264330536231**
Status : **Answered**
Chosen Option : **2**

Q.8 Select the most appropriate option to fill in the blank.
Her notoriety increased after she single- _____ shot down a Rhodesian army helicopter.

- Ans**
- 1. handedly
 - 2. stranded
 - 3. dose
 - 4. plainly

Question Type : **MCQ**
Question ID : **264330136082**
Option 1 ID : **264330533142**
Option 2 ID : **264330533140**
Option 3 ID : **264330533139**
Option 4 ID : **264330533141**
Status : **Answered**
Chosen Option : **1**

Q.9 In the following question, out of the given four alternatives, select the alternative which best expresses the meaning of the Idiom/Phrase.

A blessing in disguise

- Ans**
- 1. Hear a good news after a long time
 - 2. A misfortune that unexpectedly turns into good fortune
 - 3. To have a dispute with someone
 - 4. To go from being very poor to being very wealthy

Question Type : **MCQ**
Question ID : **264330136893**
Option 1 ID : **264330536258**
Option 2 ID : **264330536255**
Option 3 ID : **264330536257**
Option 4 ID : **264330536256**
Status : **Answered**
Chosen Option : **2**

Q.10 Select the most appropriate option to fill in the blank.

There's plenty here to trap the unwary and baffle even the _____ gambler!

- Ans**
- 1. exenterate
 - 2. reiterate
 - 3. inveterate
 - 4. alliterate

Question Type : **MCQ**
Question ID : **264330136081**
Option 1 ID : **264330533138**
Option 2 ID : **264330533135**
Option 3 ID : **264330533136**
Option 4 ID : **264330533137**
Status : **Not Answered**
Chosen Option : **--**

Q.11 Select the most appropriate option to fill in the blank.

Since these people used tobacco to _____ their deities, the herb itself was one of the instruments of godless, false religions.

- Ans**
- 1. trace
 - 2. propitiate
 - 3. expatiate
 - 4. militate

Question Type : **MCQ**
Question ID : **264330136090**
Option 1 ID : **264330533174**
Option 2 ID : **264330533173**
Option 3 ID : **264330533171**
Option 4 ID : **264330533172**
Status : **Answered**
Chosen Option : **2**

Q.12 Select the correctly spelt word.

- Ans
- 1. Aposire
 - 2. Apositte
 - 3. Apposite
 - 4. Aposite

Question Type : MCQ
Question ID : 264330136079
Option 1 ID : 264330533127
Option 2 ID : 264330533130
Option 3 ID : 264330533128
Option 4 ID : 264330533129
Status : Answered
Chosen Option : 3

Q.13 Find the part of the given sentence that has an error in it. If there is no error, choose 'No error'.

I am thirty-two years old and my sister are fifteen.

- Ans
- 1. I am thirty-two
 - 2. years old and
 - 3. my sister are fifteen.
 - 4. No error

Question Type : MCQ
Question ID : 264330134294
Option 1 ID : 264330526171
Option 2 ID : 264330526172
Option 3 ID : 264330526173
Option 4 ID : 264330526174
Status : Answered
Chosen Option : 3

Q.14 Select the most appropriate synonym of the given word.

Enervate

- Ans
- 1. Devitalize
 - 2. Arouse
 - 3. Boost
 - 4. Invigorate

Question Type : MCQ
Question ID : 264330136073
Option 1 ID : 264330533106
Option 2 ID : 264330533105
Option 3 ID : 264330533103
Option 4 ID : 264330533104
Status : Answered
Chosen Option : 1

Q.15 Select the most appropriate synonym to substitute the bracketed word in the given sentence.

It broke Eleanora's heart to see her daughter become that (wraith) of her former self.

- Ans
- 1. Yore
 - 2. Spirit
 - 3. Being
 - 4. Wail

Question Type : **MCQ**
Question ID : **264330136100**
Option 1 ID : **264330533207**
Option 2 ID : **264330533208**
Option 3 ID : **264330533209**
Option 4 ID : **264330533210**
Status : **Answered**
Chosen Option : **3**

Q.16 Select the word segment that substitutes (replaces) the bracketed word segment correctly and completes the sentence meaningfully. Select the option 'no correction required' if the sentence is correct as given.

The dessert was not just extremely hot but (also too sweet as well).

- Ans
- 1. No correction required
 - 2. also being too sweet.
 - 3. also too sweet.
 - 4. besides too sweet as well.

Question Type : **MCQ**
Question ID : **264330136642**
Option 1 ID : **264330535294**
Option 2 ID : **264330535292**
Option 3 ID : **264330535291**
Option 4 ID : **264330535293**
Status : **Answered**
Chosen Option : **3**

Q.17 Select the wrongly spelt word.

- Ans
- 1. Activity
 - 2. Protesion
 - 3. Inactivity
 - 4. Unshielded

Question Type : **MCQ**
Question ID : **264330136080**
Option 1 ID : **264330533131**
Option 2 ID : **264330533132**
Option 3 ID : **264330533134**
Option 4 ID : **264330533133**
Status : **Answered**
Chosen Option : **2**

Q.18 Identify the segment that contains a grammatical error. If there is no error, select 'No error'.

Ram ran back to the / window to see the bars dangling / a few feet before the ground.

- Ans**
- 1. window to see the bars dangling
 - 2. No error
 - 3. a few feet before the ground.
 - 4. Ram ran back to the

Question Type : **MCQ**
Question ID : **264330136639**
Option 1 ID : **264330535280**
Option 2 ID : **264330535282**
Option 3 ID : **264330535281**
Option 4 ID : **264330535279**
Status : **Answered**
Chosen Option : **3**

Q.19 Improve the underlined part of the sentence. Choose 'No improvement' as an answer if the sentence is grammatically correct.

Drive two blocks and turn right at the traffic lights.

- Ans**
- 1. turn right in
 - 2. No improvement
 - 3. turns right at
 - 4. turn rightly at

Question Type : **MCQ**
Question ID : **264330134749**
Option 1 ID : **264330527947**
Option 2 ID : **264330527950**
Option 3 ID : **264330527949**
Option 4 ID : **264330527948**
Status : **Answered**
Chosen Option : **2**

Q.20 Select the most appropriate word for the given group of words.

Quiet and peaceful

- Ans**
- 1. Inundate
 - 2. Incessant
 - 3. Introvert
 - 4. Tranquil

Question Type : **MCQ**
Question ID : **264330136072**
Option 1 ID : **264330533099**
Option 2 ID : **264330533101**
Option 3 ID : **264330533100**
Option 4 ID : **264330533102**
Status : **Answered**
Chosen Option : **4**

Comprehension:

In the following passage some of the words have been deleted. Read the passage carefully and select the correct answer for the given blank out of the four alternatives.

You may wonder if anyone would (1) _____ to be diagnosed before they are even aware they have Alzheimer's (2) _____? A recent survey shows that, indeed, they would. (3) _____ three-quarters of the respondents said they would want (4) _____ if they had Alzheimer's disease, even if they were not yet experiencing (5) _____.

SubQuestion No : 21**Q.21** Select the most appropriate option to fill in blank number 1.**Ans** ✓ 1. want

✗ 2. surrender

✗ 3. got

✗ 4. drop

Question Type : **MCQ**Question ID : **264330134303**Option 1 ID : **264330526204**Option 2 ID : **264330526203**Option 3 ID : **264330526205**Option 4 ID : **264330526206**Status : **Answered**Chosen Option : **1****Comprehension:**

In the following passage some of the words have been deleted. Read the passage carefully and select the correct answer for the given blank out of the four alternatives.

You may wonder if anyone would (1) _____ to be diagnosed before they are even aware they have Alzheimer's (2) _____? A recent survey shows that, indeed, they would. (3) _____ three-quarters of the respondents said they would want (4) _____ if they had Alzheimer's disease, even if they were not yet experiencing (5) _____.

SubQuestion No : 22**Q.22** Select the most appropriate option to fill in blank number 2.**Ans** ✓ 1. disease

✗ 2. health

✗ 3. contamination

✗ 4. bug

Question Type : **MCQ**Question ID : **264330134304**Option 1 ID : **264330526209**Option 2 ID : **264330526210**Option 3 ID : **264330526208**Option 4 ID : **264330526207**Status : **Answered**Chosen Option : **1**

Comprehension:

In the following passage some of the words have been deleted. Read the passage carefully and select the correct answer for the given blank out of the four alternatives.

You may wonder if anyone would (1) _____ to be diagnosed before they are even aware they have Alzheimer's (2) _____? A recent survey shows that, indeed, they would. (3) _____ three-quarters of the respondents said they would want (4) _____ if they had Alzheimer's disease, even if they were not yet experiencing (5) _____.

SubQuestion No : 23**Q.23** Select the most appropriate option to fill in blank number 3.

- Ans 1. Casually
 2. Totally
 3. Nearly
 4. Firmly

Question Type : **MCQ**Question ID : **264330134305**Option 1 ID : **264330526214**Option 2 ID : **264330526212**Option 3 ID : **264330526211**Option 4 ID : **264330526213**Status : **Answered**Chosen Option : **3****Comprehension:**

In the following passage some of the words have been deleted. Read the passage carefully and select the correct answer for the given blank out of the four alternatives.

You may wonder if anyone would (1) _____ to be diagnosed before they are even aware they have Alzheimer's (2) _____? A recent survey shows that, indeed, they would. (3) _____ three-quarters of the respondents said they would want (4) _____ if they had Alzheimer's disease, even if they were not yet experiencing (5) _____.

SubQuestion No : 24**Q.24** Select the most appropriate option to fill in blank number 4.

- Ans 1. known
 2. knowing
 3. knows
 4. to know

Question Type : **MCQ**Question ID : **264330134306**Option 1 ID : **264330526216**Option 2 ID : **264330526217**Option 3 ID : **264330526215**Option 4 ID : **264330526218**Status : **Answered**Chosen Option : **4**

Comprehension:

In the following passage some of the words have been deleted. Read the passage carefully and select the correct answer for the given blank out of the four alternatives.

You may wonder if anyone would (1) _____ to be diagnosed before they are even aware they have Alzheimer's (2) _____? A recent survey shows that, indeed, they would. (3) _____ three-quarters of the respondents said they would want (4) _____ if they had Alzheimer's disease, even if they were not yet experiencing (5) _____.

SubQuestion No : 25

Q.25 Select the most appropriate option to fill in blank number 5.

Ans 1. indexes

2. symptoms

3. evidences

4. marks

Question Type : **MCQ**

Question ID : **264330134307**

Option 1 ID : **264330526222**

Option 2 ID : **264330526219**

Option 3 ID : **264330526221**

Option 4 ID : **264330526220**

Status : **Answered**

Chosen Option : **2**

Multi Tasking Non Technical Staff and Havaladar CBIC and CBN Examination 2022

Roll Number	KD Job Updates
Candidate Name	KD Job Updates
Venue Name	Khwaja Gharib Nawaz College of Nursing
Exam Date	13/06/2023
Exam Time	9:00 AM - 10:30 AM
Subject	MTS Non Tech Havaladar CBIC and CBN Examination 2022

Section : Numerical and Mathematical Ability

Q.1 एक नाव स्थिर जल में 15 km/hr की चाल से चल सकती है। यदि धारा की चाल 5 km/hr है, तो नाव द्वारा धारा के अनुकूल 80 km जाने में लिया गया समय ज्ञात कीजिए।

- Ans
- 1. 3 hr
 - 2. 4 hr
 - 3. 6 hr
 - 4. 5 hr

Question Type : MCQ
Question ID : 264330140812
Option 1 ID : 264330551595
Option 2 ID : 264330551596
Option 3 ID : 264330551598
Option 4 ID : 264330551597
Status : Answered
Chosen Option : 2

Q.2 एक किसान की भूमि एक समलंब के आकार की है जिसकी समानांतर भुजाएँ 7.58 गज और 6.42 गज हैं और समानांतर भुजाओं के बीच की दूरी 6.50 गज है। भूमि की जुताई की लागत Rs. 2000 प्रति वर्ग गज है। पूरी भूमि को जोतने के लिए कितनी राशि खर्च करनी होगी?

- Ans
- 1. Rs. 72000
 - 2. Rs. 102000
 - 3. Rs. 85000
 - 4. Rs. 91000

Question Type : MCQ
Question ID : 264330140227
Option 1 ID : 264330549288
Option 2 ID : 264330549287
Option 3 ID : 264330549290
Option 4 ID : 264330549289
Status : Answered
Chosen Option : 4

Q.3 एक घड़ी का क्रय मूल्य Rs.750 है। यदि हानि प्रतिशत 40 प्रतिशत है, तो हानि का मान क्या है?

- Ans
- ✓ 1. Rs. 300
 - ✗ 2. Rs. 420
 - ✗ 3. Rs. 280
 - ✗ 4. Rs. 220

Question Type : MCQ

Question ID : 264330139897

Option 1 ID : 264330547969

Option 2 ID : 264330547968

Option 3 ID : 264330547970

Option 4 ID : 264330547967

Status : Answered

Chosen Option : 1

Q.4 एक कलम का अंकित मूल्य Rs.5000 है। दुकानदार ग्राहक को 15 प्रतिशत और b प्रतिशत के दो क्रमागत बड़े देता है। यदि ग्राहक कलम के लिए Rs.4080 का भुगतान करता है, तो b का मान क्या है?

- Ans
- ✗ 1. 3 प्रतिशत
 - ✗ 2. 7.5 प्रतिशत
 - ✓ 3. 4 प्रतिशत
 - ✗ 4. 5 प्रतिशत

Question Type : MCQ

Question ID : 264330140251

Option 1 ID : 264330549383

Option 2 ID : 264330549386

Option 3 ID : 264330549384

Option 4 ID : 264330549385

Status : Answered

Chosen Option : 3

Q.5 135 kg मिश्रधातु A को 72 kg मिश्रधातु B के साथ मिलाने पर एक नई मिश्रधातु प्राप्त होती है। यदि मिश्रधातु A में जिंक और कॉपर का अनुपात 4 : 5 है और मिश्रधातु B में जिंक और कॉपर का अनुपात 7 : 5 है, तो नई मिश्रधातु में जिंक का भार कितना है?

- Ans
- ✓ 1. 102 kg
 - ✗ 2. 85 kg
 - ✗ 3. 115 kg
 - ✗ 4. 92 kg

Question Type : MCQ

Question ID : 264330140640

Option 1 ID : 264330550910

Option 2 ID : 264330550908

Option 3 ID : 264330550909

Option 4 ID : 264330550907

Status : Answered

Chosen Option : 1

Q.6 एक संख्या में 30% की वृद्धि की जाती है और फिर बड़ी हुई संख्या में 30% की कमी की जाती है। संख्या में निवल वृद्धि या कमी है:

- Ans
- 1. 12% की वृद्धि
 - 2. 30% की वृद्धि
 - 3. 9% की कमी
 - 4. 15% की कमी

Question Type : MCQ

Question ID : 264330140826

Option 1 ID : 264330551654

Option 2 ID : 264330551651

Option 3 ID : 264330551653

Option 4 ID : 264330551652

Status : Answered

Chosen Option : 3

Q.7 L, P और Q ने एक साथ मिलकर एक कार्य को पूरा किया। L और P ने मिलकर कार्य का 50 प्रतिशत भाग पूरा किया और P और Q ने मिलकर कार्य का 60 प्रतिशत भाग पूरा किया। तीनों में से कौन सबसे कुशल है?

- Ans
- 1. L
 - 2. Q
 - 3. सभी समान रूप से कुशल हैं
 - 4. P

Question Type : MCQ

Question ID : 264330139017

Option 1 ID : 264330544675

Option 2 ID : 264330544677

Option 3 ID : 264330544678

Option 4 ID : 264330544676

Status : Answered

Chosen Option : 4

Q.8 रोहित और मोहित एक कार्य को 4 दिनों में कर सकते हैं, जबकि राम और श्याम उसी कार्य को 12 दिनों में कर सकते हैं। रोहित, मोहित, राम और श्याम मिलकर इसे कितने दिनों में करेंगे?

- Ans
- 1. 5 दिन
 - 2. 2 दिन
 - 3. 4 दिन
 - 4. 3 दिन

Question Type : MCQ

Question ID : 264330140814

Option 1 ID : 264330551606

Option 2 ID : 264330551603

Option 3 ID : 264330551605

Option 4 ID : 264330551604

Status : Answered

Chosen Option : 4

Q.9 $\frac{12 \times 4 \div 3 \text{ of } 16 + 24 - 5}{46 \div 23 \times 2}$ का मान क्या है?

- Ans
- 1. 3
 - 2. 4
 - 3. 5
 - 4. 6

Question Type : MCQ

Question ID : 264330139947

Option 1 ID : 264330548168

Option 2 ID : 264330548167

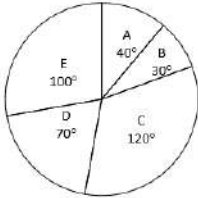
Option 3 ID : 264330548170

Option 4 ID : 264330548169

Status : Answered

Chosen Option : 3

Q.10 नीचे दिए गए वृत्त आलेख में पाँच विश्वविद्यालयों में शिक्षकों की संख्या को दर्शाया गया है। इन सभी पाँच विश्वविद्यालयों में कुल शिक्षक 720 हैं। इनमें से किसी एक विशिष्ट विश्वविद्यालय में शिक्षकों की संख्या को इन सभी पाँच विश्वविद्यालयों में शिक्षकों की कुल संख्या के सापेक्ष डिग्री में दर्शाया गया है।



J1 = B और C में शिक्षकों की औसत संख्या का मान।

J2 = A और E में शिक्षकों की औसत संख्या का मान।

(J2 + J1) का मान क्या है?

- Ans
- 1. 290
 - 2. 250
 - 3. 210
 - 4. 240

Question Type : MCQ

Question ID : 264330139930

Option 1 ID : 264330548100

Option 2 ID : 264330548099

Option 3 ID : 264330548102

Option 4 ID : 264330548101

Status : Answered

Chosen Option : 1

Q.11 नीचे दी गई तालिका में 6 वर्षों में एक विद्यालय में लड़के और लड़कियों की संख्या को दर्शाया गया है।

वर्ष	लड़के	लड़कियाँ
Y1	90	80
Y2	70	60
Y3	130	110
Y4	110	150
Y5	170	50
Y6	100	90

निम्नलिखित में से कौन-सा कथन सही नहीं है?

I. वर्ष Y6 में लड़कियों की संख्या, वर्ष Y6 में लड़कों की संख्या का 9 प्रतिशत है।

II. वर्ष Y1 और Y2 में लड़कों की औसत संख्या 80 है।

Ans

✓ 1. केवल I

✗ 2. न तो I और ना ही II

✗ 3. I और II दोनों

✗ 4. केवल II

Question Type : MCQ

Question ID : 264330139646

Option 1 ID : 264330546999

Option 2 ID : 264330547002

Option 3 ID : 264330547001

Option 4 ID : 264330547000

Status : Answered

Chosen Option : 4

Q.12 एक व्यक्ति द्वारा 15 वर्षों में Rs.6000 के मूलधन पर प्राप्त साधारण ब्याज मूलधन का 150 प्रतिशत है। वार्षिक ब्याज दर क्या है?

Ans

✗ 1. 25 प्रतिशत

✗ 2. 30 प्रतिशत

✓ 3. 10 प्रतिशत

✗ 4. 20 प्रतिशत

Question Type : MCQ

Question ID : 264330140621

Option 1 ID : 264330550831

Option 2 ID : 264330550832

Option 3 ID : 264330550834

Option 4 ID : 264330550833

Status : Answered

Chosen Option : 3

Q.13 24 प्रेक्षकों का औसत 41 है। पहले 9 प्रेक्षकों का औसत 42 है। अंतिम 16 प्रेक्षकों का औसत 39 है। 9वें प्रेक्षण का मान क्या है?

- Ans
- ✓ 1. 18
 - ✗ 2. 24
 - ✗ 3. 14
 - ✗ 4. 20

Question Type : MCQ
Question ID : 264330140587
Option 1 ID : 264330550702
Option 2 ID : 264330550701
Option 3 ID : 264330550700
Option 4 ID : 264330550699
Status : Answered
Chosen Option : 1

Q.14 $\sqrt{0.52 \times 0.52 + 0.31 \times 0.31 + 0.62 \times 0.52}$ का मान क्या है?

- Ans
- ✗ 1. 0.63
 - ✗ 2. 0.93
 - ✓ 3. 0.83
 - ✗ 4. 0.73

Question Type : MCQ
Question ID : 264330140550
Option 1 ID : 264330550558
Option 2 ID : 264330550556
Option 3 ID : 264330550557
Option 4 ID : 264330550555
Status : Answered
Chosen Option : 3

Q.15 एक दुकानदार एक पुस्तक को 60 प्रतिशत की हानि पर बेचता है। यदि उसने पुस्तक को Rs. 150 अधिक में बेचा होता, तो उसे 30 प्रतिशत की हानि होती। 20 प्रतिशत का लाभ कमाने के लिए पुस्तक का विक्रय मूल्य कितना होना चाहिए?

- Ans
- ✓ 1. Rs. 600
 - ✗ 2. Rs. 700
 - ✗ 3. Rs. 550
 - ✗ 4. Rs. 650

Question Type : MCQ
Question ID : 264330140638
Option 1 ID : 264330550900
Option 2 ID : 264330550901
Option 3 ID : 264330550902
Option 4 ID : 264330550899
Status : Answered
Chosen Option : 1

Q.16 एक गोले का व्यास 14.7 मीटर है। गोले का आयतन क्या है?

- Ans
- 1. $1693.563 m^3$
 - 2. $1783.723 m^3$
 - 3. $1873.487 m^3$
 - 4. $1663.893 m^3$

Question Type : MCQ

Question ID : 264330138454

Option 1 ID : 264330542424

Option 2 ID : 264330542423

Option 3 ID : 264330542425

Option 4 ID : 264330542426

Status : Answered

Chosen Option : 4

Q.17 Rs.50 प्रति लीटर (per litre) मूल्य वाले दूध में पानी को किस अनुपात में मिलाया जाए कि Rs.35 प्रति लीटर मूल्य का मिश्रण प्राप्त हो? (पानी मुफ्त में उपलब्ध है)

- Ans
- 1. 3:7
 - 2. 2:7
 - 3. 3:5
 - 4. 7:5

Question Type : MCQ

Question ID : 264330133839

Option 1 ID : 264330524381

Option 2 ID : 264330524382

Option 3 ID : 264330524379

Option 4 ID : 264330524380

Status : Answered

Chosen Option : 1

Q.18 यदि $X : Y = 2 : 3$ और $Y : Z = 6 : 7$ है, तो $(X + Z) : Y$ का मान क्या है?

- Ans
- 1. 11 : 8
 - 2. 17 : 15
 - 3. 17 : 14
 - 4. 11 : 6

Question Type : MCQ

Question ID : 264330139596

Option 1 ID : 264330546800

Option 2 ID : 264330546802

Option 3 ID : 264330546799

Option 4 ID : 264330546801

Status : Answered

Chosen Option : 4

Q.19 तीन अंकों की वह सबसे छोटी संख्या कौन-सी है जिसमें 5 की वृद्धि करने पर, वह 2 और 3 दोनों से भाज्य होती है?

- Ans
- 1. 105
 - 2. 103
 - 3. 108
 - 4. 102

Question Type : MCQ

Question ID : 264330140598

Option 1 ID : 264330550744

Option 2 ID : 264330550743

Option 3 ID : 264330550745

Option 4 ID : 264330550746

Status : Answered

Chosen Option : 1

Q.20 एक राशि का (वार्षिक रूप से संयोजित) चक्रवृद्धि ब्याज की एक योजना में निवेश करने पर, वह 2 वर्षों में Rs.33800 और 3 वर्षों में Rs.43,940 हो जाती है। यदि उसी योजना में 2 वर्षों के लिए दोगुनी राशि का निवेश किया जाए, तो 2 वर्ष के अंत में प्राप्त होने वाली राशि कितनी होगी?

- Ans
- 1. Rs. 67,600
 - 2. Rs. 71,240
 - 3. Rs. 60,420
 - 4. Rs. 62,480

Question Type : MCQ

Question ID : 264330140574

Option 1 ID : 264330550650

Option 2 ID : 264330550649

Option 3 ID : 264330550647

Option 4 ID : 264330550648

Status : Not Answered

Chosen Option : --

Section : Reasoning Ability and Problem Solving

Q.1 एक निश्चित कूट भाषा में, 'BECOME' को 'HPRFHE' लिखा जाता है। उस कूट भाषा में 'ACTIVE' को कैसे लिखा जाएगा?

- Ans
- 1. HYLWFC
 - 2. HYLWDD
 - 3. HYLVFD
 - 4. HYLWFD

Question Type : MCQ

Question ID : 264330139553

Option 1 ID : 264330546630

Option 2 ID : 264330546628

Option 3 ID : 264330546629

Option 4 ID : 264330546627

Status : Answered

Chosen Option : 4

Q.2 आठ लड़के राम, सुमित, सुनील, राहुल, राज, अमन, अमित और अनिल एक वृत्ताकार मेज के चारों ओर केंद्र के विपरीत दिशा की ओर मुख करके बैठे हैं (परंतु जरूरी नहीं कि वे इसी क्रम में बैठें हों)। सुनील, राम के ठीक बाईं ओर बैठा है। राम, राहुल के बाईं ओर से चौथे स्थान पर है। अमित, राज के दाईं ओर से चौथे स्थान पर है। राज, राम के दाईं ओर से दूसरे स्थान पर है। अनिल, सुमित के बाईं ओर से दूसरे स्थान पर है। अमन, सुमित के दाईं ओर से दूसरे स्थान पर है। सुनील के दाईं ओर से दूसरे स्थान पर कौन है?

- Ans**
- 1. अमन
 - 2. अनिल
 - 3. राहुल
 - 4. राज

Question Type : **MCQ**

Question ID : **264330140060**

Option 1 ID : **264330548620**

Option 2 ID : **264330548619**

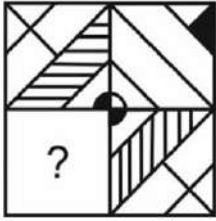
Option 3 ID : **264330548621**

Option 4 ID : **264330548622**

Status : **Answered**

Chosen Option : **2**

Q.3 उस विकल्प आकृति को चुनिए जो नीचे दी गई आकृति में पैटर्न को पूरा करने के लिए प्रश्न चिन्ह (?) के स्थान पर आएगी। (घूर्णन की अनुमति नहीं है)।



Ans

✗ 1.



✗ 2.



✗ 3.



✓ 4.



Question Type : MCQ

Question ID : 264330140471

Option 1 ID : 264330550266

Option 2 ID : 264330550265

Option 3 ID : 264330550263

Option 4 ID : 264330550264

Status : Answered

Chosen Option : 3

Q.4 दी गई श्रृंखला में निम्नलिखित में से कौन-सी संख्या प्रश्न चिन्ह (?) के स्थान पर आएगी?
48, 50, 53, 58, 65, 76, 89, ?

- Ans 1. 106
 2. 203
 3. 195
 4. 150

Question Type : MCQ
Question ID : 264330140145
Option 1 ID : 264330548959
Option 2 ID : 264330548960
Option 3 ID : 264330548962
Option 4 ID : 264330548961
Status : Answered
Chosen Option : 1

Q.5 एक निश्चित कूट भाषा में, 'XIWG' को 'HXJY' लिखा जाता है। उस कूट भाषा में 'MSOE' को कैसे लिखा जाएगा?

- Ans 1. FPTN
 2. FNTF
 3. FPTT
 4. FTPN

Question Type : MCQ
Question ID : 264330140136
Option 1 ID : 264330548925
Option 2 ID : 264330548924
Option 3 ID : 264330548926
Option 4 ID : 264330548923
Status : Answered
Chosen Option : 1

Q.6 यदि A का अर्थ 'जोड़', B का अर्थ 'गुणा', C का अर्थ 'घटाव' और D का अर्थ 'भाग' हो, तो निम्नलिखित समीकरण का मान क्या होगा?
7 B 5 A 31 C (48 D 6) = ?

- Ans 1. 58
 2. 62
 3. 38
 4. 46

Question Type : MCQ
Question ID : 264330140006
Option 1 ID : 264330548404
Option 2 ID : 264330548406
Option 3 ID : 264330548405
Option 4 ID : 264330548403
Status : Answered
Chosen Option : 1

Q.7 एक निश्चित कूट भाषा में, 'MANAGE' को '629023', 'NARAT' को '52342', 'TENM' को '3695' लिखा जाता है।
उस कूट भाषा में 'R' को कैसे लिखा जाएगा?

- Ans 1. 2
 2. 5
 3. 4
 4. 3

Question Type : MCQ

Question ID : 264330140980

Option 1 ID : 264330552268

Option 2 ID : 264330552267

Option 3 ID : 264330552269

Option 4 ID : 264330552270

Status : Answered

Chosen Option : 3

Q.8 निम्नलिखित प्रश्न में, दी गई श्रृंखला में लुप्त संख्या को चुनिए।

10, -18, -46, -74, -102, ?

- Ans 1. -140
 2. -130
 3. -133
 4. -150

Question Type : MCQ

Question ID : 264330140967

Option 1 ID : 264330552216

Option 2 ID : 264330552215

Option 3 ID : 264330552217

Option 4 ID : 264330552218

Status : Answered

Chosen Option : 2

Q.9 दो कथन दिए गए हैं और दो निष्कर्ष I और II दिए गए हैं। कथनों को सत्य मानते हुए, चाहे वे सामान्यतः ज्ञात तथ्यों से अलग प्रतीत होते हों, निश्चय कीजिए कि कौन-सा निष्कर्ष ताकिक रूप से कथनों के अनुसार है।
कथन:

कुछ चींटियाँ, चमगादड़ हैं।

कुछ चमगादड़, बिल्लियाँ हैं।

निष्कर्ष:

I. कुछ चींटियाँ, बिल्लियाँ हैं।

II. सभी चमगादड़ कभी भी बिल्लियाँ नहीं हो सकते।

Ans

1. केवल निष्कर्ष I कथनों के अनुसार है।

2. केवल निष्कर्ष II कथनों के अनुसार है।

3. दोनों निष्कर्ष I और II कथनों के अनुसार हैं।

4. न तो निष्कर्ष I और न ही II कथनों के अनुसार है।

Question Type : **MCQ**

Question ID : **264330140103**

Option 1 ID : **264330548791**

Option 2 ID : **264330548792**

Option 3 ID : **264330548793**

Option 4 ID : **264330548794**

Status : **Answered**

Chosen Option : **4**

Q.10 उस विकल्प को चुनिए जो पाँचवें पद से ठीक उसी प्रकार संबंधित है जिस प्रकार दूसरा पद पहले पद से संबंधित है और चौथा पद तीसरे पद से संबंधित है।

TRA : FNW :: MNG : LJP :: FOK : ?

Ans

1. PKJ

2. PLJ

3. PLI

4. PKI

Question Type : **MCQ**

Question ID : **264330140978**

Option 1 ID : **264330552260**

Option 2 ID : **264330552259**

Option 3 ID : **264330552262**

Option 4 ID : **264330552261**

Status : **Answered**

Chosen Option : **4**

Q.11 पाँच लड़कियाँ बबीता, लिता, मीता, रीता और टीना एक खेल खेल रही हैं। वे एक पंक्ति में उत्तर की ओर मुख करके बैठी हैं। मीता पश्चिम छोर पर बैठी है और टीना पूर्वी छोर पर बैठी है। लिता और रीता एक-दूसरे के बगल में बैठी हैं। बबीता, लिता के ठीक बाईं ओर तथा मीता के दाईं ओर बैठी है। पूर्वी छोर से दूसरे स्थान पर कौन बैठा है?

- Ans
- 1. टीना
 - 2. बबीता
 - 3. लिता
 - 4. रीता

Question Type : MCQ
 Question ID : 264330140099
 Option 1 ID : 264330548777
 Option 2 ID : 264330548778
 Option 3 ID : 264330548775
 Option 4 ID : 264330548776
 Status : Answered
 Chosen Option : 4

Q.12 दी गई आकृति के उस सही दर्पण प्रतिबिंब को चुनिए, जो नीचे दर्शाए गए अनुसार दर्पण को MN पर रखने पर बनेगा।

REPLACE 

- Ans
- 1. 
 - 2. 
 - 3. 
 - 4. 

Question Type : MCQ
 Question ID : 264330140470
 Option 1 ID : 264330550262
 Option 2 ID : 264330550261
 Option 3 ID : 264330550260
 Option 4 ID : 264330550259
 Status : Answered
 Chosen Option : 2

Q.13 उस समुच्चय को चुनिए जिसमें दी गई संख्याएँ ठीक उसी प्रकार संबंधित हैं जिस प्रकार निम्नलिखित समुच्चयों की संख्याएँ संबंधित हैं। (ध्यान दें: संख्याओं को उनके घटक अंकों में अलग-अलग किए बिना, पूर्ण संख्याओं पर संक्रियाएँ की जानी चाहिए। उदा. 13 - 13 पर संक्रियाएँ जैसे 13 को जोड़ना /घटाना /गुणा करना आदि किया जा सकता है। 13 को 1 और 3 में अलग-अलग करने की और फिर 1 और 3 पर गणितीय संक्रियाएँ करने की अनुमति नहीं है)
(4, 6, 72)
(5, 7, 105)

- Ans**
- 1. (3, 6, 36)
 - 2. (2, 5, 40)
 - 3. (6, 8, 144)
 - 4. (6, 9, 108)

Question Type : **MCQ**
Question ID : **264330140486**
Option 1 ID : **264330550323**
Option 2 ID : **264330550324**
Option 3 ID : **264330550325**
Option 4 ID : **264330550326**
Status : **Answered**
Chosen Option : **3**

Q.14 उस विकल्प को चुनिए जो तीसरे अक्षर-समूह से ठीक उसी प्रकार संबंधित है जिस प्रकार दूसरा अक्षर-समूह पहले अक्षर-समूह से संबंधित है।
BAG : ACZBFH :: DOG : ?

- Ans**
- 1. CNEFHH
 - 2. CNEPFH
 - 3. CENPHF
 - 4. CENPFH

Question Type : **MCQ**
Question ID : **264330140074**
Option 1 ID : **264330548675**
Option 2 ID : **264330548678**
Option 3 ID : **264330548676**
Option 4 ID : **264330548677**
Status : **Answered**
Chosen Option : **4**

Q.15 उस विकल्प को चुनिए जो तीसरी संख्या से ठीक उसी तरह संबंधित है जिस तरह दूसरी संख्या पहली संख्या से संबंधित है।
529 : 577 :: 841 : ?

- Ans**
- 1. 902
 - 2. 899
 - 3. 911
 - 4. 901

Question Type : **MCQ**
Question ID : **264330140465**
Option 1 ID : **264330550242**
Option 2 ID : **264330550239**
Option 3 ID : **264330550241**
Option 4 ID : **264330550240**
Status : **Answered**
Chosen Option : **2**

Q.16 दो कथन दिए गए हैं और दो निष्कर्ष I और II दिए गए हैं। कथनों को सत्य मानते हुए, चाहे वे सामान्यतः ज्ञात तथ्यों से अलग प्रतीत होते हों, निश्चय कीजिए कि कौन-सा निष्कर्ष तार्किक रूप से कथनों के अनुसार है।

कथन:

कुछ चाय, कॉफी हैं।

सभी कॉफी, मीठी हैं।

निष्कर्ष:

I. सभी मीठी, कॉफी हैं।

II. कुछ मीठी, चाय हैं।

Ans

1. दोनों निष्कर्ष I और II कथनों के अनुसार हैं
2. सिर्फ निष्कर्ष II कथनों के अनुसार है
3. निष्कर्ष I और II में से कोई भी कथनों के अनुसार नहीं है
4. सिर्फ निष्कर्ष I कथनों के अनुसार है

Question Type : MCQ

Question ID : 264330140461

Option 1 ID : 264330550225

Option 2 ID : 264330550224

Option 3 ID : 264330550226

Option 4 ID : 264330550223

Status : Answered

Chosen Option : 2

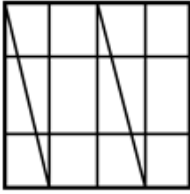
Q.17 उस विकल्प आकृति को चुनिए जिसमें दी गई आकृति (X) उसके भाग के रूप में निहित है (घूर्णन की अनुमति नहीं है)।



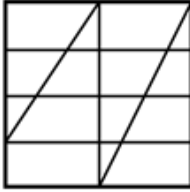
(X)

Ans

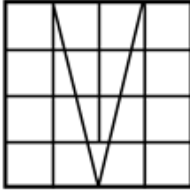
✗ 1.



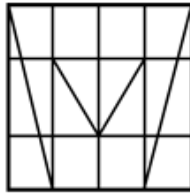
✗ 2.



✗ 3.



✓ 4.



Question Type : MCQ

Question ID : 264330140110

Option 1 ID : 264330548819

Option 2 ID : 264330548821

Option 3 ID : 264330548822

Option 4 ID : 264330548820

Status : Answered

Chosen Option : 4

Q.18 दिए गए समीकरण को सही करने के लिए किन दो संख्याओं को आपस में बदला जाना चाहिए?

$$192 \div 12 \times 6 + 16 - 18 = 66$$

Ans

✗ 1. 16 और 18

✗ 2. 6 और 18

✗ 3. 16 और 6

✓ 4. 16 और 12

Question Type : MCQ

Question ID : 264330140448

Option 1 ID : 264330550172

Option 2 ID : 264330550174

Option 3 ID : 264330550171

Option 4 ID : 264330550173

Status : Answered

Chosen Option : 4

Q.19 एक श्रृंखला दी गई है जिसमें एक पद लुप्त है। दिए गए विकल्पों में से उस सही विकल्प को चुनिए जो श्रृंखला को पूरा करेगा।

GRAM, JUDP, MXGS, ?, SDMY

- Ans
- 1. PAKV
 - 2. PAJV
 - 3. PBKV
 - 4. PAJU

Question Type : MCQ

Question ID : 264330139548

Option 1 ID : 264330546610

Option 2 ID : 264330546609

Option 3 ID : 264330546607

Option 4 ID : 264330546608

Status : Answered

Chosen Option : 2

Q.20 राहुल, हार्दिक, सूर्या, मोहन और कमल के कद की तुलना की जाती है। राहुल की लंबाई केवल तीन व्यक्तियों से कम है। सूर्या की लंबाई राहुल की लंबाई से न तो अधिक है और न ही कम है। कमल की लंबाई मोहन से अधिक लेकिन हार्दिक से कम है। कितने व्यक्तियों की लंबाई सूर्या से अधिक लेकिन हार्दिक से कम है?

- Ans
- 1. 0
 - 2. 3
 - 3. 1
 - 4. 2

Question Type : MCQ

Question ID : 264330139556

Option 1 ID : 264330546641

Option 2 ID : 264330546639

Option 3 ID : 264330546640

Option 4 ID : 264330546642

Status : Answered

Chosen Option : 2

Section : General Awareness

Q.1 पंजाब के प्रसिद्ध शीश महल का निर्माण निम्नलिखित में से किस शासक ने करवाया था?

- Ans
- 1. राणा कुंभ
 - 2. राजा मानसिंह प्रथम
 - 3. महाराजा सवाई प्रताप सिंह
 - 4. महाराजा नरिंदर सिंह

Question Type : MCQ

Question ID : 264330140935

Option 1 ID : 264330552090

Option 2 ID : 264330552089

Option 3 ID : 264330552087

Option 4 ID : 264330552088

Status : Answered

Chosen Option : 4

Q.2 पंथी नृत्य शैली भारत के _____ राज्य से संबंधित है।

- Ans
- 1. पंजाब
 - 2. महाराष्ट्र
 - 3. केरल
 - 4. छत्तीसगढ़

Question Type : MCQ
Question ID : 264330140728
Option 1 ID : 264330551259
Option 2 ID : 264330551262
Option 3 ID : 264330551260
Option 4 ID : 264330551261
Status : Answered
Chosen Option : 4

Q.3 सौर मंडल का सबसे बड़ा ग्रह कौनसा है?

- Ans
- 1. वरुण (Neptune)
 - 2. बृहस्पति
 - 3. अरुण (Uranus)
 - 4. पृथ्वी

Question Type : MCQ
Question ID : 264330139738
Option 1 ID : 264330547370
Option 2 ID : 264330547368
Option 3 ID : 264330547369
Option 4 ID : 264330547367
Status : Answered
Chosen Option : 2

Q.4 निम्नलिखित में से किस खेल में 'शटलकॉक (Shuttlecock)' का इस्तेमाल किया जाता है?

- Ans
- 1. बिलियर्ड्स (Billiards)
 - 2. बेसबॉल
 - 3. बैडमिंटन
 - 4. बास्केटबॉल

Question Type : MCQ
Question ID : 264330140364
Option 1 ID : 264330549838
Option 2 ID : 264330549837
Option 3 ID : 264330549835
Option 4 ID : 264330549836
Status : Answered
Chosen Option : 3

Q.5 शिव नारायण अग्निहोत्री ने लाहौर में देव समाज की स्थापना कब की थी?

- Ans
- 1. 1863
 - 2. 1892
 - 3. 1887
 - 4. 1876

Question Type : MCQ

Question ID : 264330140358

Option 1 ID : 264330549811

Option 2 ID : 264330549814

Option 3 ID : 264330549813

Option 4 ID : 264330549812

Status : Not Answered

Chosen Option : --

Q.6 "लाइफ ऑफ पाई (Life of Pi)" उपन्यास किसने लिखा था?

- Ans
- 1. यान मार्टेल (Yann Martel)
 - 2. जोनाथन सफ़रन फ़ॉयर (Jonathan Safran Foer)
 - 3. कैरल बर्च (Carol Birch)
 - 4. खालिद हुसैनी (Khaled Hosseini)

Question Type : MCQ

Question ID : 264330140668

Option 1 ID : 264330551019

Option 2 ID : 264330551021

Option 3 ID : 264330551020

Option 4 ID : 264330551022

Status : Not Answered

Chosen Option : --

Q.7 संगम कविताओं में एक तमिल शब्द 'मुवेन्दार (Muvendar)' की चर्चा मिलती है जिसका अर्थ _____ है।

- Ans
- 1. तीन घोड़े
 - 2. तीन बंदरगाह
 - 3. तीन मुखिया
 - 4. तीन कर

Question Type : MCQ

Question ID : 264330140288

Option 1 ID : 264330549533

Option 2 ID : 264330549531

Option 3 ID : 264330549532

Option 4 ID : 264330549534

Status : Not Answered

Chosen Option : --

Q.8 "स्वामी दयानंद सरस्वती" द्वारा स्थापित "आर्य समाज" का उद्देश्य क्या था?

Ans

- 1. निरंकुश शासन स्थापित करना
- 2. वस्तु विनिमय व्यापार की प्रथा को प्रोत्साहित करना
- 3. अंग्रेजों के खिलाफ उठ खड़े होना
- 4. हिंदू धर्म में सुधार करना

Question Type : MCQ

Question ID : 264330138969

Option 1 ID : 264330544484

Option 2 ID : 264330544483

Option 3 ID : 264330544486

Option 4 ID : 264330544485

Status : Answered

Chosen Option : 4

Q.9 जिन प्रदेशों में कृषक केवल सब्जियाँ पैदा करता है, वहाँ इसको _____ का नाम दिया जाता है।

Ans

- 1. दुग्ध कृषि
- 2. पशुपालन कृषि
- 3. मिश्रित कृषि
- 4. ट्रक कृषि

Question Type : MCQ

Question ID : 264330139743

Option 1 ID : 264330547390

Option 2 ID : 264330547387

Option 3 ID : 264330547388

Option 4 ID : 264330547389

Status : Answered

Chosen Option : 4

Q.10 वह प्रक्रिया जिसमें दो अमिश्रणीय द्रव, इस प्रकार मिश्रित होते हैं कि एक द्रव पदार्थ दूसरे द्रव पदार्थ में छोटी-छोटी बूंदों के रूप में परिक्षेपित होता है, _____ कहलाती है।

Ans

- 1. पृथक्करण
- 2. पायसीकरण (Emulsification)
- 3. फिल्टरीकरण
- 4. कैरामेलीकरण (Caramelisation)

Question Type : MCQ

Question ID : 264330140733

Option 1 ID : 264330551282

Option 2 ID : 264330551279

Option 3 ID : 264330551280

Option 4 ID : 264330551281

Status : Answered

Chosen Option : 2

Q.11 जनवरी 2022 में, एस. सोमनाथ को _____ के दसवें अध्यक्ष के रूप में नियुक्त किया गया है।

- Ans
- 1. आरबीआई (RBI)
 - 2. डीआरडीओ (DRDO)
 - 3. सेबी (SEBI)
 - 4. इसरो (ISRO)

Question Type : MCQ
Question ID : 264330139681
Option 1 ID : 264330547139
Option 2 ID : 264330547140
Option 3 ID : 264330547142
Option 4 ID : 264330547141
Status : Answered
Chosen Option : 4

Q.12 बुद्ध _____ नामक एक छोटे से गण से संबंधित थे।

- Ans
- 1. पांचाल गण
 - 2. शाक्य गण
 - 3. कुरु गण
 - 4. अवंती गण

Question Type : MCQ
Question ID : 264330140902
Option 1 ID : 264330551958
Option 2 ID : 264330551956
Option 3 ID : 264330551955
Option 4 ID : 264330551957
Status : Answered
Chosen Option : 2

Q.13 तनन या संपीडन प्रतिबल को _____ भी कहा जा सकता है।

- Ans
- 1. जलीय प्रतिबल
 - 2. अपरूपण प्रतिबल
 - 3. अनुदैर्घ्य प्रतिबल
 - 4. स्पर्शी प्रतिबल

Question Type : MCQ
Question ID : 264330140322
Option 1 ID : 264330549670
Option 2 ID : 264330549667
Option 3 ID : 264330549668
Option 4 ID : 264330549669
Status : Not Answered
Chosen Option : --

Q.14 'फ़ीयरलेस गवर्नेंस (Fearless Governance)' नामक पुस्तक के लेखक कौन हैं?

- Ans
- 1. अनुज धर
 - 2. अमिताव घोष
 - 3. अनिरुद्ध सूरी
 - 4. किरण बेदी

Question Type : MCQ
Question ID : 264330138976
Option 1 ID : 264330544512
Option 2 ID : 264330544511
Option 3 ID : 264330544514
Option 4 ID : 264330544513
Status : Answered
Chosen Option : 4

Q.15 निम्नलिखित में से किस भारतीय ओलंपियन का संबंध कुश्ती के खेल से है?

- Ans
- 1. अदिति अशोक
 - 2. नीरज चोपड़ा
 - 3. साक्षी मलिक
 - 4. अभिनव बिंद्रा

Question Type : MCQ
Question ID : 264330140929
Option 1 ID : 264330552065
Option 2 ID : 264330552064
Option 3 ID : 264330552066
Option 4 ID : 264330552063
Status : Answered
Chosen Option : 3

Q.16 Which of the following referred to as 'paper taxes'?

- I. Wealth tax
- II. Gift tax

- Ans
- 1. Neither I nor II
 - 2. Only I
 - 3. Both I and II
 - 4. Only II

Question Type : MCQ
Question ID : 264330139876
Option 1 ID : 264330547886
Option 2 ID : 264330547883
Option 3 ID : 264330547885
Option 4 ID : 264330547884
Status : Answered
Chosen Option : 4

Q.17 संविधान (अनुसूचित जाति और अनुसूचित जनजाति)आदेश विधेयक 2022 को भारत के _____ राज्य में पेश किया गया था।

- Ans
- 1. राजस्थान
 - 2. पंजाब
 - 3. झारखंड
 - 4. केरल

Question Type : MCQ
Question ID : 264330140726
Option 1 ID : 264330551253
Option 2 ID : 264330551251
Option 3 ID : 264330551254
Option 4 ID : 264330551252
Status : Answered
Chosen Option : 4

Q.18 जयंती कुमारेण _____ की सर्वश्रेष्ठ वादकों में से एक हैं।

- Ans
- 1. संतूर
 - 2. वीणा
 - 3. सितार
 - 4. तबला

Question Type : MCQ
Question ID : 264330140273
Option 1 ID : 264330549474
Option 2 ID : 264330549473
Option 3 ID : 264330549472
Option 4 ID : 264330549471
Status : Not Answered
Chosen Option : --

Q.19 अकबर के शासनकाल का इतिहास, जिसका शीर्षक "अकबर नामा (Akbar Nama)" है, _____ द्वारा लिखा गया है।

- Ans
- 1. मोहम्मद खान
 - 2. अब्बास खान शेरवानी
 - 3. अब्द अल-कादिर बदायुनी
 - 4. अबुल फजल

Question Type : MCQ
Question ID : 264330139745
Option 1 ID : 264330547398
Option 2 ID : 264330547397
Option 3 ID : 264330547396
Option 4 ID : 264330547395
Status : Answered
Chosen Option : 4

Q.20 शैवाल के किस वर्ग को प्रायः भूरा शैवाल कहा जाता है?

- Ans
- 1. क्लोरोफाइसी (Chlorophyceae)
 - 2. क्राइसोफाइसी (Chrysophyceae)
 - 3. फियोफाइसी (Phaeophyceae)
 - 4. रोडोफाइसी (Rhodophyceae)

Question Type : MCQ

Question ID : 264330140732

Option 1 ID : 264330551275

Option 2 ID : 264330551277

Option 3 ID : 264330551276

Option 4 ID : 264330551278

Status : Not Answered

Chosen Option : --

Q.21 बराकर (Barakar) निम्नलिखित में से किस नदी की सहायक नदी है?

- Ans
- 1. दामोदर
 - 2. कृष्णा
 - 3. रावी
 - 4. कावेरी

Question Type : MCQ

Question ID : 264330140352

Option 1 ID : 264330549787

Option 2 ID : 264330549789

Option 3 ID : 264330549788

Option 4 ID : 264330549790

Status : Answered

Chosen Option : 1

Q.22 छठ पूजा उत्सव _____ भगवान को समर्पित होता है।

- Ans
- 1. सूर्य
 - 2. ब्रह्मा
 - 3. इंद्र
 - 4. विष्णु

Question Type : MCQ

Question ID : 264330140345

Option 1 ID : 264330549762

Option 2 ID : 264330549759

Option 3 ID : 264330549761

Option 4 ID : 264330549760

Status : Answered

Chosen Option : 1

Q.23 2011 की जनगणना के अनुसार, पुरुष साक्षरता दर कितनी है?

- Ans
- ✓ 1. 82.14%
 - ✗ 2. 65.14%
 - ✗ 3. 71.14%
 - ✗ 4. 75.14%

Question Type : MCQ

Question ID : 264330140303

Option 1 ID : 264330549591

Option 2 ID : 264330549594

Option 3 ID : 264330549593

Option 4 ID : 264330549592

Status : Answered

Chosen Option : 4

Q.24 भारतीय संविधान का अनुच्छेद _____ चुनाव आयोग में निहित निर्वाचनों के अधीक्षण, निर्देशन और नियंत्रण का प्रावधान करता है।

- Ans
- ✓ 1. 324
 - ✗ 2. 338
 - ✗ 3. 336
 - ✗ 4. 330

Question Type : MCQ

Question ID : 264330140278

Option 1 ID : 264330549491

Option 2 ID : 264330549494

Option 3 ID : 264330549493

Option 4 ID : 264330549492

Status : Answered

Chosen Option : 1

Q.25 जलोढ़ मृदाओं का रंग _____ जैसा होता है।

- Ans
- ✗ 1. नारंगी से लाल
 - ✗ 2. हल्के नारंगी से गहरा नारंगी
 - ✓ 3. हल्के धूसर से राख धूसर
 - ✗ 4. हल्के सफेद से चमकीला सफेद

Question Type : MCQ

Question ID : 264330140351

Option 1 ID : 264330549783

Option 2 ID : 264330549785

Option 3 ID : 264330549784

Option 4 ID : 264330549786

Status : Answered

Chosen Option : 3

Q.1 The statement below has been given with bracketed text. Select the option with correct Idiom for the bracketed text.
He (made an irreversible change, that will greatly impact his life) when he got that huge tattoo on his back!

- Ans**
- 1. became the devil's advocate
 - 2. put a rose on his nose
 - 3. beat the dead horse
 - 4. crossed the Rubicon

Question Type : **MCQ**
Question ID : **264330135762**
Option 1 ID : **264330531929**
Option 2 ID : **264330531930**
Option 3 ID : **264330531927**
Option 4 ID : **264330531928**
Status : **Answered**
Chosen Option : **4**

Q.2 Four sentences are given, out of which three have spelling errors. Choose the sentence with all correctly spelt words.

- Ans**
- 1. I got selected in D category.
 - 2. What was the begining of the dispute?
 - 3. There is no comparision between the two books.
 - 4. She handlded the situation cooly.

Question Type : **MCQ**
Question ID : **264330136433**
Option 1 ID : **264330534492**
Option 2 ID : **264330534494**
Option 3 ID : **264330534493**
Option 4 ID : **264330534491**
Status : **Answered**
Chosen Option : **1**

Q.3 Select the most appropriate antonym to substitute the bracketed word in the given sentence.

Similarly Sirius, the most (luminous) star in all the heavens, actually has a faint companion.

- Ans**
- 1. excited
 - 2. gloomy
 - 3. serious
 - 4. miserable

Question Type : **MCQ**
Question ID : **264330136554**
Option 1 ID : **264330534951**
Option 2 ID : **264330534954**
Option 3 ID : **264330534953**
Option 4 ID : **264330534952**
Status : **Answered**
Chosen Option : **2**

Q.4 Select the word segment that substitutes (replaces) the bracketed word segment correctly and completes the sentence meaningfully. Select the option 'no correction required' if the sentence is correct as given.

He lost his temper (by a driver) flashed her headlights as he overtook.

- Ans**
- 1. afterwards a driver
 - 2. considering a driver
 - 3. after a driver
 - 4. No correction required

Question Type : **MCQ**
Question ID : **264330136564**
Option 1 ID : **264330534991**
Option 2 ID : **264330534993**
Option 3 ID : **264330534992**
Option 4 ID : **264330534994**
Status : **Answered**
Chosen Option : **1**

Q.5 Fill in the blank with the most appropriate option.

'Well, that was _____ good,' said Harper.

- Ans**
- 1. pretty
 - 2. gorgeous
 - 3. beautiful
 - 4. pleasing

Question Type : **MCQ**
Question ID : **264330136133**
Option 1 ID : **264330533336**
Option 2 ID : **264330533338**
Option 3 ID : **264330533335**
Option 4 ID : **264330533337**
Status : **Answered**
Chosen Option : **1**

Q.6 Choose the incorrectly spelt word.

- Ans**
- 1. Blame
 - 2. Leaf
 - 3. Staringg
 - 4. Grave

Question Type : **MCQ**
Question ID : **264330141188**
Option 1 ID : **264330553092**
Option 2 ID : **264330553091**
Option 3 ID : **264330553093**
Option 4 ID : **264330553094**
Status : **Answered**
Chosen Option : **3**

Q.7 Identify the segment that contains a grammatical error. If there is no error, select 'No error'.
Although people had been on watch and / the watchkeepers were very, very tired, / everyone were up and buzzing.

- Ans**
- 1. the watchkeepers were very, very tired,
 - 2. everyone were up and buzzing.
 - 3. No Error
 - 4. Although people had been on watch and

Question Type : **MCQ**
Question ID : **264330135821**
Option 1 ID : **264330532156**
Option 2 ID : **264330532157**
Option 3 ID : **264330532158**
Option 4 ID : **264330532155**
Status : **Answered**
Chosen Option : **4**

Q.8 Identify the segment that contains a grammatical error. If there is no error, select 'No error'

Your body will respond by/ getting more muscular and/ strong before you know it.

- Ans**
- 1. No error
 - 2. Your body will respond by
 - 3. getting more muscular and
 - 4. strong before you know it.

Question Type : **MCQ**
Question ID : **264330135664**
Option 1 ID : **264330531554**
Option 2 ID : **264330531551**
Option 3 ID : **264330531552**
Option 4 ID : **264330531553**
Status : **Answered**
Chosen Option : **2**

Q.9 Select the most appropriate word for the given group of words:
Information, especially of a biased or misleading nature, used to promote a political cause or point of view

- Ans**
- 1. Orchard
 - 2. Propaganda
 - 3. Welter
 - 4. Potable

Question Type : **MCQ**
Question ID : **264330136758**
Option 1 ID : **264330535738**
Option 2 ID : **264330535735**
Option 3 ID : **264330535736**
Option 4 ID : **264330535737**
Status : **Answered**
Chosen Option : **2**

Q.10 Fill in the blank with the most appropriate option.

Sulochana, whose _____ I had so admired during the festival, seemed a different person.

- Ans**
- 1. crudeness
 - 2. shadow
 - 3. polish
 - 4. grace

Question Type : **MCQ**
Question ID : **264330136568**
Option 1 ID : **264330535008**
Option 2 ID : **264330535010**
Option 3 ID : **264330535007**
Option 4 ID : **264330535009**
Status : **Answered**
Chosen Option : **4**

Q.11 Select the appropriate synonym for the underlined word.

You look around and you see green, happy plants.

- Ans**
- 1. nascent
 - 2. gloomy
 - 3. mourning
 - 4. blissful

Question Type : **MCQ**
Question ID : **264330141196**
Option 1 ID : **264330553119**
Option 2 ID : **264330553120**
Option 3 ID : **264330553121**
Option 4 ID : **264330553122**
Status : **Answered**
Chosen Option : **1**

Q.12 In the following question, out of the given four alternatives, select the alternative which best expresses the meaning of the Idiom/Phrase.

Fairly and squarely

- Ans**
- 1. Rigorously
 - 2. Wholly
 - 3. Suddenly
 - 4. Honestly

Question Type : **MCQ**
Question ID : **264330135555**
Option 1 ID : **264330531122**
Option 2 ID : **264330531120**
Option 3 ID : **264330531121**
Option 4 ID : **264330531119**
Status : **Answered**
Chosen Option : **4**

Q.13 Select the most appropriate option to substitute the bracketed segment in the given sentence. If there is no need to substitute it, select 'no substitution required'.
(There's many a good tunes) played on an old violin.

- Ans**
- 1. There are many a good tunes
 - 2. There are many good tunes
 - 3. There's many good tune
 - 4. No substitution required

Question Type : **MCQ**
Question ID : **264330135824**
Option 1 ID : **264330532169**
Option 2 ID : **264330532168**
Option 3 ID : **264330532167**
Option 4 ID : **264330532170**
Status : **Answered**
Chosen Option : **2**

Q.14 Select the most appropriate antonym of the given word.

Crude

- Ans**
- 1. Stubble
 - 2. Intense
 - 3. Ripe
 - 4. Beastly

Question Type : **MCQ**
Question ID : **264330136205**
Option 1 ID : **264330533612**
Option 2 ID : **264330533611**
Option 3 ID : **264330533613**
Option 4 ID : **264330533614**
Status : **Answered**
Chosen Option : **3**

Q.15 Select the appropriate synonym for the underlined word.

Don't sound so excited

- Ans**
- 1. composed
 - 2. casual
 - 3. eager
 - 4. tired

Question Type : **MCQ**
Question ID : **264330135525**
Option 1 ID : **264330531006**
Option 2 ID : **264330531005**
Option 3 ID : **264330531004**
Option 4 ID : **264330531003**
Status : **Answered**
Chosen Option : **3**

Q.16 Choose the word that can substitute the given group of words.

A container for housing honeybees

- Ans
- 1. Colonies
 - 2. Hive
 - 3. Pack
 - 4. Shoal

Question Type : MCQ
Question ID : 264330141186
Option 1 ID : 264330553085
Option 2 ID : 264330553086
Option 3 ID : 264330553083
Option 4 ID : 264330553084
Status : Answered
Chosen Option : 2

Q.17 Select the most appropriate option to fill in the blank.

She has a large, _____ sympathy and absolute fairness of temper.

- Ans
- 1. thrifty
 - 2. generous
 - 3. mean
 - 4. sparing

Question Type : MCQ
Question ID : 264330135560
Option 1 ID : 264330531141
Option 2 ID : 264330531140
Option 3 ID : 264330531139
Option 4 ID : 264330531142
Status : Answered
Chosen Option : 1

Q.18 Improve the underlined part of the sentence. Choose 'No improvement' as an answer if the sentence is grammatically correct.

Even in time of natural disasters, the farmers had to pay their share of taxes.

- Ans
- 1. times of natural
 - 2. timer of natural
 - 3. No improvement
 - 4. times of naturally

Question Type : MCQ
Question ID : 264330141182
Option 1 ID : 264330553067
Option 2 ID : 264330553068
Option 3 ID : 264330553070
Option 4 ID : 264330553069
Status : Answered
Chosen Option : 1

Q.19 Identify the segment that contains a grammatical error. If there is no error, select 'No error'.
Fred and George had / bewitched there trunks to fly downstairs to / save the bother of carrying them.

- Ans**
- 1. save the bother of carrying them.
 - 2. bewitched there trunks to fly downstairs to
 - 3. No error
 - 4. Fred and George had

Question Type : **MCQ**
Question ID : **264330136135**
Option 1 ID : **264330533345**
Option 2 ID : **264330533344**
Option 3 ID : **264330533346**
Option 4 ID : **264330533343**
Status : **Answered**
Chosen Option : **1**

Q.20 A sentence has been given with a blank to be filled with an appropriate option. Choose the correct alternative.

Your presence _____ both my brother and sister.

- Ans**
- 1. effects
 - 2. effect
 - 3. affects
 - 4. affecting

Question Type : **MCQ**
Question ID : **264330135158**
Option 1 ID : **264330529567**
Option 2 ID : **264330529570**
Option 3 ID : **264330529568**
Option 4 ID : **264330529569**
Status : **Answered**
Chosen Option : **3**

Comprehension:

In the following passage some words have been deleted. Fill in the blanks with the help of the alternatives given. Select the most appropriate option for each number.

He (1) _____ his eyes. Moonlight was shining (2) _____ the bars on the window. And (3) _____ was goggling through the (4) _____ at him: a freckle-faced, red-haired, long-nosed someone. Ron Weasley was outside Harry's (5) _____.

SubQuestion No : 21

Q.21 Select the most appropriate option to fill in the blank No. 1.

- Ans**
- 1. close
 - 2. opened
 - 3. open
 - 4. expanded

Question Type : **MCQ**
Question ID : **264330135698**
Option 1 ID : **264330531681**
Option 2 ID : **264330531679**
Option 3 ID : **264330531680**
Option 4 ID : **264330531682**
Status : **Answered**
Chosen Option : **2**

Comprehension:

In the following passage some words have been deleted. Fill in the blanks with the help of the alternatives given. Select the most appropriate option for each number.

He (1) _____ his eyes. Moonlight was shining (2) _____ the bars on the window. And (3) _____ was goggling through the (4) _____ at him: a freckle-faced, red-haired, long-nosed someone. Ron Weasley was outside Harry's (5) _____.

SubQuestion No : 22

Q.22 Select the most appropriate option to fill in the blank No. 2.

- Ans**
- 1. complete
 - 2. through
 - 3. in
 - 4. though

Question Type : **MCQ**
Question ID : **264330135699**
Option 1 ID : **264330531685**
Option 2 ID : **264330531684**
Option 3 ID : **264330531686**
Option 4 ID : **264330531683**
Status : **Answered**
Chosen Option : **2**

Comprehension:

In the following passage some words have been deleted. Fill in the blanks with the help of the alternatives given. Select the most appropriate option for each number.

He (1) _____ his eyes. Moonlight was shining (2) _____ the bars on the window. And (3) _____ was goggling through the (4) _____ at him: a freckle-faced, red-haired, long-nosed someone. Ron Weasley was outside Harry's (5) _____.

SubQuestion No : 23

Q.23 Select the most appropriate option to fill in the blank No. 3.

- Ans**
- 1. sometimes
 - 2. somewhat
 - 3. someone
 - 4. somewhere

Question Type : **MCQ**
Question ID : **264330135700**
Option 1 ID : **264330531690**
Option 2 ID : **264330531688**
Option 3 ID : **264330531687**
Option 4 ID : **264330531689**
Status : **Answered**
Chosen Option : **3**

Comprehension:

In the following passage some words have been deleted. Fill in the blanks with the help of the alternatives given. Select the most appropriate option for each number.

He (1) _____ his eyes. Moonlight was shining (2) _____ the bars on the window. And (3) _____ was goggling through the (4) _____ at him: a freckle-faced, red-haired, long-nosed someone. Ron Weasley was outside Harry's (5) _____.

SubQuestion No : 24

Q.24 Select the most appropriate option to fill in the blank No. 4.

- Ans**
- 1. bars
 - 2. horizontals
 - 3. grills
 - 4. verticals

Question Type : **MCQ**
Question ID : **264330135701**
Option 1 ID : **264330531692**
Option 2 ID : **264330531694**
Option 3 ID : **264330531691**
Option 4 ID : **264330531693**
Status : **Answered**
Chosen Option : **1**

Comprehension:

In the following passage some words have been deleted. Fill in the blanks with the help of the alternatives given. Select the most appropriate option for each number.

He (1) _____ his eyes. Moonlight was shining (2) _____ the bars on the window. And (3) _____ was goggling through the (4) _____ at him: a freckle-faced, red-haired, long-nosed someone. Ron Weasley was outside Harry's (5) _____.

SubQuestion No : 25

Q.25 Select the most appropriate option to fill in the blank No. 5.

- Ans**
- 1. cupboard
 - 2. window
 - 3. toilet
 - 4. suitcase

Question Type : **MCQ**
Question ID : **264330135702**
Option 1 ID : **264330531697**
Option 2 ID : **264330531695**
Option 3 ID : **264330531698**
Option 4 ID : **264330531696**
Status : **Answered**
Chosen Option : **2**

Multi Tasking Non Technical Staff and Havaladar CBIC and CBN Examination 2022

Roll Number	KD Job Updates
Candidate Name	KD Job Updates
Venue Name	iON Digital Zone iDZ Green Park
Exam Date	13/06/2023
Exam Time	12:00 PM - 2:00 PM
Subject	MTS Non Tech Havaladar CBIC and CBN Examination 2022

Section : Numerical and Mathematical Ability

Q.1 U, V और W साथ मिलकर एक कार्य को 10 दिनों में पूरा कर सकते हैं। यदि U, V से तीन गुना अधिक तेजी से कार्य कर सकता है और V, W से दोगुना अधिक तेजी से कार्य कर सकता है, तो W अकेले उसी कार्य को कितने दिनों में पूरा कर सकता है?

- Ans
- 1. 45 दिनों में
 - 2. 100 दिनों में
 - 3. 90 दिनों में
 - 4. 63 दिनों में

Question Type : MCQ

Question ID : 264330139892

Option 1 ID : 264330547950

Option 2 ID : 264330547947

Option 3 ID : 264330547948

Option 4 ID : 264330547949

Status : Answered

Chosen Option : 3

Q.2 Rs.1080 पर 48 प्रतिशत का एकल बढ़ा दिया गया। यदि 25 प्रतिशत और 20 प्रतिशत के दो क्रमागत बढ़े दिए जाते हैं, तो दोनों विक्रय मूल्यों के बीच कितना अंतर होगा?

- Ans
- 1. Rs. 72.5
 - 2. Rs. 86.4
 - 3. Rs. 65.8
 - 4. Rs. 80.8

Question Type : MCQ

Question ID : 264330140575

Option 1 ID : 264330550653

Option 2 ID : 264330550652

Option 3 ID : 264330550654

Option 4 ID : 264330550651

Status : Answered

Chosen Option : 2

Q.3 $\frac{96 \text{ of } 2 \div 24 + 92}{10 \times 10 = 10}$ का मान क्या है?

- Ans 1. 10
 2. 50
 3. 1
 4. 100

Question Type : MCQ
Question ID : 264330140209
Option 1 ID : 264330549216
Option 2 ID : 264330549218
Option 3 ID : 264330549215
Option 4 ID : 264330549217
Status : Answered
Chosen Option : 1

Q.4 एक गिलास का विक्रय मूल्य Rs.1287 है और हानि प्रतिशत 22 प्रतिशत है। यदि विक्रय मूल्य Rs.1848 है, तो लाभ प्रतिशत क्या होगा?

- Ans 1. 12 प्रतिशत
 2. 15 प्रतिशत
 3. 10 प्रतिशत
 4. 8 प्रतिशत

Question Type : MCQ
Question ID : 264330139615
Option 1 ID : 264330546876
Option 2 ID : 264330546875
Option 3 ID : 264330546877
Option 4 ID : 264330546878
Status : Answered
Chosen Option : 1

Q.5 छात्रों के एक समूह का औसत भार 42 kg है। 48 kg भार वाला एक छात्र समूह छोड़ देता है और 44 kg भार वाला एक अन्य छात्र समूह में शामिल हो जाता है। यदि नया औसत भार 41.6 kg हो जाता है, तो समूह में कितने छात्र हैं?

- Ans 1. 15
 2. 8
 3. 10
 4. 12

Question Type : MCQ
Question ID : 264330140615
Option 1 ID : 264330550810
Option 2 ID : 264330550807
Option 3 ID : 264330550808
Option 4 ID : 264330550809
Status : Answered
Chosen Option : 3

Q.6 विकास ने 3 परीक्षाएँ दीं। उसके द्वारा तीन परीक्षाओं में प्राप्त अंकों का क्रमशः अनुपात 3 : 5 : 6 है। तीन परीक्षाओं के अधिकतम अंकों का क्रमशः अनुपात 7 : 11 : 10 है। यदि उसने कुल मिलाकर 50 प्रतिशत अंक प्राप्त किए हैं, तो कितनी परीक्षाओं में उसने 50 प्रतिशत से अधिक अंक प्राप्त किए हैं?

- Ans
- 1. 2
 - 2. 1
 - 3. किसी में नहीं
 - 4. 3

Question Type : MCQ
Question ID : 264330140248
Option 1 ID : 264330549373
Option 2 ID : 264330549372
Option 3 ID : 264330549371
Option 4 ID : 264330549374
Status : Answered
Chosen Option : 1

Q.7 किसी राशि पर 8 प्रतिशत वार्षिक दर से प्राप्त साधारण ब्याज, उस राशि का $\frac{2}{5}$ है। समय अवधि क्या है?

- Ans
- 1. 5 वर्ष
 - 2. 7.5 वर्ष
 - 3. 6 वर्ष
 - 4. 4 वर्ष

Question Type : MCQ
Question ID : 264330140543
Option 1 ID : 264330550527
Option 2 ID : 264330550530
Option 3 ID : 264330550528
Option 4 ID : 264330550529
Status : Answered
Chosen Option : 1

Q.8 5 cm त्रिज्या और 30 cm तिर्यक ऊँचाई वाले शंकु का वक्र पृष्ठीय क्षेत्रफल क्या होगा? ($\pi = 3.14$ का प्रयोग करें)

- Ans
- 1. 715 m²
 - 2. 543 m²
 - 3. 471 cm²
 - 4. 234 m²

Question Type : MCQ
Question ID : 264330140795
Option 1 ID : 264330551529
Option 2 ID : 264330551528
Option 3 ID : 264330551527
Option 4 ID : 264330551530
Status : Answered
Chosen Option : 3

Q.9 Rs.10 प्रति किलोग्राम मूल्य वाली चाय को Rs.15 प्रति किलोग्राम मूल्य वाली चाय के साथ किस अनुपात में मिलाया जाए कि परिणामी मिश्रण का मूल्य Rs.12 प्रति किलोग्राम हो?

- Ans
- 1. 3 : 5
 - 2. 3 : 2
 - 3. 2 : 5
 - 4. 2 : 3

Question Type : MCQ

Question ID : 264330133584

Option 1 ID : 264330523360

Option 2 ID : 264330523359

Option 3 ID : 264330523361

Option 4 ID : 264330523362

Status : Answered

Chosen Option : 2

Q.10 एक पुरुष ने एक संख्या का $\frac{5}{8}$ के स्थान पर $\frac{8}{5}$ से गुणा किया। गणना में प्रतिशत त्रुटि कितनी है?

- Ans
- 1. 162%
 - 2. 124%
 - 3. 156%
 - 4. 100%

Question Type : MCQ

Question ID : 264330139041

Option 1 ID : 264330544774

Option 2 ID : 264330544772

Option 3 ID : 264330544773

Option 4 ID : 264330544771

Status : Answered

Chosen Option : 3

Q.11 दो बेलनों के आयतन का अनुपात 13 : 1 है और उनकी ऊँचाइयों का अनुपात 13 : 9 है। यदि दूसरे बेलन के आधार का क्षेत्रफल 154 cm^2 है, तो पहले बेलन की विज्या क्या होगी?

- Ans
- 1. 42 cm
 - 2. 28 cm
 - 3. 14 cm
 - 4. 21 cm

Question Type : MCQ

Question ID : 264330140644

Option 1 ID : 264330550926

Option 2 ID : 264330550925

Option 3 ID : 264330550924

Option 4 ID : 264330550923

Status : Answered

Chosen Option : 4

Q.12 निम्नलिखित तालिका में वर्ष 2018 से 2022 तक एक कंपनी द्वारा किए गए व्यय को दर्शाया गया है। इस अवधि के दौरान कंपनी द्वारा प्रति वर्ष भुगतान किए गए कर की औसत धनराशि कितनी है?

Year	Expenditure(in lakh)				
	Fuel and Transport	Taxes	Bonus	Interest on loans	Salary
2018	98	100	1.5	25.5	325
2019	120	105	2.4	36.6	400
2020	114	102	3.8	42.8	422
2021	128	98	3.9	38.4	425
2022	140	92	4.2	48.5	440

Expenditure (in lakh) - खर्च (लाख में), Year - वर्ष, Fuel and Transport - ईंधन और परिवहन, taxes - कर, Bonus - बोनस, Interest on loans - ऋण पर व्याज, Salary - वेतन

- Ans
- 1. 90.2 लाख
 - 2. 99.4 लाख
 - 3. 92.5 लाख
 - 4. 91.4 लाख

Question Type : MCQ

Question ID : 264330140837

Option 1 ID : 264330551698

Option 2 ID : 264330551697

Option 3 ID : 264330551695

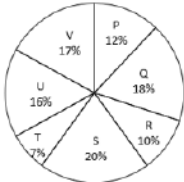
Option 4 ID : 264330551696

Status : Answered

Chosen Option : 1

Q.13 नीचे दिए गए वृत्त आलेख में एक वर्ष में सात कंपनियों द्वारा की गई बचत को दर्शाया गया है। इन सभी

कंपनियों की कुल बचत 12000 है। इनमें से किसी एक विशिष्ट कंपनी की बचत को इन सभी सात कंपनियों की कुल बचत के प्रतिशत के रूप में दर्शाया गया है।



निम्नलिखित में से कौन-सा कथन सही है?

- I. Q की बचत और U की बचत का अनुपात 8 : 9 है।
- II. त्रिज्यखंड R द्वारा बने वाला केंद्रीय कोण 36° है।
- III. P की बचत, S की बचत का 60 प्रतिशत है।

- Ans
- 1. I और II
 - 2. I और III
 - 3. II और III
 - 4. I, II और III

Question Type : MCQ

Question ID : 264330139910

Option 1 ID : 264330548019

Option 2 ID : 264330548021

Option 3 ID : 264330548020

Option 4 ID : 264330548022

Status : Answered

Chosen Option : 3

Q.14 2 वर्ष पहले, X और Y की आयु का अनुपात 7:5 था और 2 वर्ष बाद उनकी आयु का अनुपात 9:7 हो जाएगा। Y की वर्तमान आयु कितनी है?

- Ans
- 1. 18 वर्ष
 - 2. 12 वर्ष
 - 3. 14 वर्ष
 - 4. 16 वर्ष

Question Type : MCQ
Question ID : 264330140181
Option 1 ID : 264330549106
Option 2 ID : 264330549103
Option 3 ID : 264330549105
Option 4 ID : 264330549104
Status : Answered
Chosen Option : 2

Q.15 यदि विक्रय मूल्य का 2 गुना, क्रय मूल्य के 3 गुना के बराबर है, तो लाभ प्रतिशत क्या है??

- Ans
- 1. 40 प्रतिशत
 - 2. 50 प्रतिशत
 - 3. 4 प्रतिशत
 - 4. 25 प्रतिशत

Question Type : MCQ
Question ID : 264330140569
Option 1 ID : 264330550630
Option 2 ID : 264330550629
Option 3 ID : 264330550627
Option 4 ID : 264330550628
Status : Answered
Chosen Option : 2

Q.16 एक रेलगाड़ी मुंबई से 3:00 pm पर निकलती है और 20 km/hr की चाल से अहमदाबाद की ओर चलती है। एक दूसरी रेलगाड़ी अहमदाबाद से 8 pm पर निकलती है और 60 km/hr की चाल से मुंबई की ओर चलती है। यदि मुंबई और अहमदाबाद के बीच की दूरी 600 km है, तो दोनों रेलगाड़ियाँ किस समय मिलेंगी?

- Ans
- 1. 2:15 am
 - 2. 1:30 am
 - 3. 12:30 am
 - 4. 2:00 am

Question Type : MCQ
Question ID : 264330140613
Option 1 ID : 264330550799
Option 2 ID : 264330550800
Option 3 ID : 264330550801
Option 4 ID : 264330550802
Status : Answered
Chosen Option : 1

Q.17 यदि समयावधि को 5 वर्ष बढ़ा दिया जाए, तो Rs. 6000 की धनराशि पर साधारण ब्याज Rs. 3600 बढ़ जाता है।
वार्षिक ब्याज दर क्या है?

- Ans
- ✓ 1. 12 प्रतिशत
 - ✗ 2. 15 प्रतिशत
 - ✗ 3. 10 प्रतिशत
 - ✗ 4. 12.5 प्रतिशत

Question Type : MCQ
Question ID : 264330139027
Option 1 ID : 264330544716
Option 2 ID : 264330544717
Option 3 ID : 264330544715
Option 4 ID : 264330544718
Status : Answered
Chosen Option : 1

Q.18 12, 24 और 36 के लघुत्तम समपवर्त्य और महत्तम समापवर्तक का अनुपात क्या होगा?

- Ans
- ✗ 1. 4 : 1
 - ✗ 2. 2 : 1
 - ✗ 3. 3 : 1
 - ✓ 4. 6 : 1

Question Type : MCQ
Question ID : 264330140578
Option 1 ID : 264330550664
Option 2 ID : 264330550665
Option 3 ID : 264330550663
Option 4 ID : 264330550666
Status : Answered
Chosen Option : 4

Q.19 $49 \div 7 - 343 \div 7 - 243 \div 27 + 729 \div 27 + 152 \div 19$ का मान क्या है?

- Ans
- ✗ 1. 16
 - ✗ 2. -32
 - ✗ 3. 32
 - ✓ 4. -16

Question Type : MCQ
Question ID : 264330139033
Option 1 ID : 264330544739
Option 2 ID : 264330544740
Option 3 ID : 264330544741
Option 4 ID : 264330544742
Status : Answered
Chosen Option : 4

Q.20 मोहित और रोहित ने Rs.2200 में एक कार्य हाथ में लिया। मोहित अकेले उस कार्य को 10 दिनों में कर सकता है और रोहित उसी कार्य को अकेले 12 दिनों में कर सकता है। यदि वे साथ मिलकर कार्य करते हैं, तो उन्हें प्राप्त होने वाली राशि में कितना अंतर होगा?

- Ans**
- 1. Rs. 400
 - 2. Rs. 600
 - 3. Rs. 200
 - 4. Rs. 500

Question Type : **MCQ**

Question ID : **264330140153**

Option 1 ID : **264330548991**

Option 2 ID : **264330548994**

Option 3 ID : **264330548992**

Option 4 ID : **264330548993**

Status : **Answered**

Chosen Option : **3**

Section : Reasoning Ability and Problem Solving

Q.1 नीचे दिए गए समीकरण में कौन-से गणितीय चिन्हों को आपस में बदला जाना चाहिए जिससे यह समीकरण गणितीय रूप से सही हो जाएगा?

$$72 \div 4 \times 64 + 8 - 24 = 80$$

- Ans**
- 1. - और \times
 - 2. \div और \times
 - 3. \div और +
 - 4. - और +

Question Type : **MCQ**

Question ID : **264330140487**

Option 1 ID : **264330550330**

Option 2 ID : **264330550327**

Option 3 ID : **264330550328**

Option 4 ID : **264330550329**

Status : **Answered**

Chosen Option : **3**

Q.2 दी गई आकृति के उस सही दर्पण प्रतिबिंब को चुनिए जो दर्पण को नीचे दर्शाए गए अनुसार MN पर रखने पर बनेगा।

F D 8 P C Q

Ans

- ✗ 1.
- ✗ 2.
- ✓ 3.
- ✗ 4.

Question Type : MCQ

Question ID : 264330140111

Option 1 ID : 264330548824

Option 2 ID : 264330548823

Option 3 ID : 264330548826

Option 4 ID : 264330548825

Status : Answered

Chosen Option : 3

Q.3 एक स्कूल के सात छात्रों, E, F, G, H, I, J, और K सभी ने अलग-अलग अंक प्राप्त किए हैं। E के अंक केवल एक छात्र से कम थे। K ने केवल एक छात्र से अधिक अंक प्राप्त किए। H के अंक I से अधिक लेकिन E से कम थे। न तो F और न ही G को सबसे कम अंक प्राप्त हुए। I के अंक K से अधिक थे। सबसे कम अंक किसने प्राप्त किए?

Ans

- ✗ 1. I
- ✗ 2. F
- ✓ 3. J
- ✗ 4. E

Question Type : MCQ

Question ID : 264330139999

Option 1 ID : 264330548377

Option 2 ID : 264330548378

Option 3 ID : 264330548375

Option 4 ID : 264330548376

Status : Answered

Chosen Option : 1

Q.4 उस समुच्चय को चुनिए जिसमें संख्याएँ ठीक उसी प्रकार संबंधित हैं जिस प्रकार निम्नलिखित समुच्चयों की संख्याएँ संबंधित हैं। (ध्यान दें: संख्याओं को उनके घटक अंकों में अलग-अलग किए बिना, पूर्ण संख्याओं पर संक्रियाएँ की जानी चाहिए। उदा. 13 - 13 पर संक्रियाएँ जैसे 13 को जोड़ना/घटाना/गुणा करना आदि किया जा सकता है। 13 को 1 और 3 में अलग-अलग करने की और फिर 1 और 3 पर गणितीय संक्रियाएँ करने की अनुमति नहीं है)
(27, 9, 3)
(125, 25, 5)

- Ans**
- 1. (739, 81, 9)
 - 2. (243, 49, 7)
 - 3. (512, 64, 8)
 - 4. (206, 36, 6)

Question Type : **MCQ**
Question ID : **264330140446**
Option 1 ID : **264330550165**
Option 2 ID : **264330550164**
Option 3 ID : **264330550166**
Option 4 ID : **264330550163**
Status : **Answered**
Chosen Option : **3**

Q.5 छः व्यक्ति आकाश, नमन, दिव्या, राकेश, पंकज और रमेश दो समानांतर पंक्तियों में इस प्रकार बैठे हैं कि प्रत्येक पंक्ति में तीन व्यक्ति एक-दूसरे की ओर मुख करके बैठे हैं। आकाश का मुख नमन की ओर है जो दिव्या के ठीक बाईं ओर बैठा है। दिव्या, रमेश के सम्मुख बैठी है जिसका मुख दक्षिण दिशा की ओर है। पंकज, रमेश के ठीक बाईं ओर बैठा है। उनमें से कौन उत्तर की ओर मुख करके बैठा है और किसी भी कोने पर नहीं बैठा है?

- Ans**
- 1. नमन
 - 2. आकाश
 - 3. दिव्या
 - 4. राकेश

Question Type : **MCQ**
Question ID : **264330140080**
Option 1 ID : **264330548702**
Option 2 ID : **264330548701**
Option 3 ID : **264330548699**
Option 4 ID : **264330548700**
Status : **Answered**
Chosen Option : **2**

Q.6 एक लिखित कूट भाषा में, 'MYNB' को '2468' लिखा जाता है, 'ZNBA' को '5687' लिखा जाता है, 'QRMA' को '1253' लिखा जाता है। उस कूट भाषा में 'Z' को कैसे लिखा जाएगा?

- Ans**
- 1. 8
 - 2. 6
 - 3. 7
 - 4. 5

Question Type : **MCQ**
Question ID : **264330140057**
Option 1 ID : **264330548607**
Option 2 ID : **264330548609**
Option 3 ID : **264330548610**
Option 4 ID : **264330548608**
Status : **Answered**
Chosen Option : **3**

Q.7 सात लड़कियाँ मानसी, श्वेता, मोनिका, पायल, आरती, काजल और लक्ष्मी एक वृत्ताकार मेज के चारों ओर केंद्र की ओर मुख करके बैठी हैं (परंतु जरूरी नहीं कि वे इसी क्रम में बैठीं हों)। पायल, मानसी के ठीक बाईं ओर है। मानसी, लक्ष्मी के बाईं ओर से तीसरे स्थान पर है। काजल, आरती की निकटतम पड़ोसी नहीं है। श्वेता, काजल के बाईं ओर से दूसरे स्थान पर है। मोनिका के बाईं ओर से तीसरे स्थान पर कौन बैठा है?

- Ans
- 1. पायल
 - 2. काजल
 - 3. श्वेता
 - 4. आरती

Question Type : MCQ

Question ID : 264330139554

Option 1 ID : 264330546633

Option 2 ID : 264330546631

Option 3 ID : 264330546634

Option 4 ID : 264330546632

Status : Not Answered

Chosen Option : --

Q.8 दी गई श्रृंखला में निम्नलिखित में से कौन-सा अक्षर-समूह प्रश्न चिन्ह (?) के स्थान पर आएगा?
DH, EJ, FL, GN, ?

- Ans
- 1. HN
 - 2. PH
 - 3. GM
 - 4. HP

Question Type : MCQ

Question ID : 264330140412

Option 1 ID : 264330550028

Option 2 ID : 264330550029

Option 3 ID : 264330550030

Option 4 ID : 264330550027

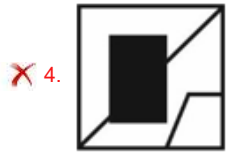
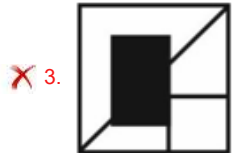
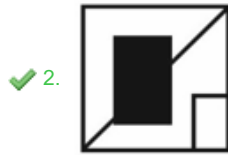
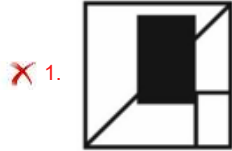
Status : Answered

Chosen Option : 4

Q.9 कौन-सी उत्तर आकृति प्रश्न आकृति में पैटर्न को पूरा करेगी?



Ans



Question Type : MCQ

Question ID : 264330140995

Option 1 ID : 264330552329

Option 2 ID : 264330552328

Option 3 ID : 264330552330

Option 4 ID : 264330552327

Status : Answered

Chosen Option : 2

Q.10 एक निश्चित कूट भाषा में, 'DMCGH' को 'CKZCC' लिखा जाता है। उस भाषा में 'TLFUP' को कैसे लिखा जाएगा?

Ans ✗ 1. SCJQK

✗ 2. SJCQQ

✗ 3. SJCKQ

✓ 4. SJCQK

Question Type : MCQ

Question ID : 264330140078

Option 1 ID : 264330548691

Option 2 ID : 264330548693

Option 3 ID : 264330548692

Option 4 ID : 264330548694

Status : Answered

Chosen Option : 4

Q.11 निम्नलिखित प्रश्न में, दी गई श्रृंखला में लुप्त संख्या को चुनिए ।

300, 271, 242, 213, 184, ?

- Ans 1. 155
 2. 150
 3. 160
 4. 153

Question Type : MCQ

Question ID : 264330140987

Option 1 ID : 264330552295

Option 2 ID : 264330552296

Option 3 ID : 264330552298

Option 4 ID : 264330552297

Status : Answered

Chosen Option : 1

Q.12 उस विकल्प को चुनिए जो तीसरे अक्षर-समूह से ठीक उसी तरह संबंधित है जिस तरह दूसरा अक्षर-समूह पहले अक्षर-समूह से संबंधित है।

AP : CN :: RT : ?

- Ans 1. RT
 2. TS
 3. SR
 4. TR

Question Type : MCQ

Question ID : 264330138768

Option 1 ID : 264330543679

Option 2 ID : 264330543682

Option 3 ID : 264330543681

Option 4 ID : 264330543680

Status : Answered

Chosen Option : 4

Q.13 In the following question below are given some statements followed by some conclusions based on those statements. Taking the given statements to be true even if they seem to be at variance from commonly known facts. Read all the conclusions and then decide which of the given conclusion logically follows the given statements.

Statements:

I. Some pencil are paper.

II. No book is paper.

Conclusion:

I. Some pencil are not book.

II. All book are pencil.

III. Some paper are pencil.

- Ans**
- 1. Both conclusions I and III follows
 - 2. Both conclusions II and III follows
 - 3. All conclusion follows
 - 4. Only conclusion II follows

Question Type : **MCQ**

Question ID : **264330139558**

Option 1 ID : **264330546648**

Option 2 ID : **264330546650**

Option 3 ID : **264330546649**

Option 4 ID : **264330546647**

Status : **Answered**

Chosen Option : **1**

Q.14 दिए गए समीकरण को सही करने के लिए किन दो चिन्हों को आपस में बदला जाना चाहिए?
 $68 \div 2 - 42 + 108 \times 12 = 103$

- Ans**
- 1. = और -
 - 2. \div और \times
 - 3. \div और +
 - 4. + और -

Question Type : **MCQ**

Question ID : **264330140007**

Option 1 ID : **264330548408**

Option 2 ID : **264330548407**

Option 3 ID : **264330548409**

Option 4 ID : **264330548410**

Status : **Not Answered**

Chosen Option : **--**

Q.15 उस विकल्प को चुनिए जो छठी संख्या से ठीक उसी प्रकार संबंधित है जिस प्रकार पहली संख्या दूसरी संख्या से संबंधित है और तीसरी संख्या चौथी संख्या से संबंधित है।

22 : 484 :: 23 : 529 :: ? : 729

Ans 1. 29

2. 26

3. 31

4. 27

Question Type : **MCQ**

Question ID : **264330139984**

Option 1 ID : **264330548316**

Option 2 ID : **264330548317**

Option 3 ID : **264330548315**

Option 4 ID : **264330548318**

Status : **Answered**

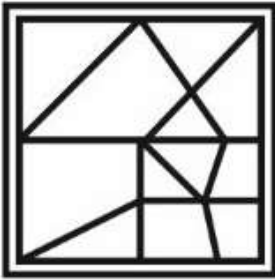
Chosen Option : **4**

Q.16 उस विकल्प आकृति को चुनिए जिसमें दी गई आकृति निहित है।(घूर्णन की अनुमति नहीं है)



Ans

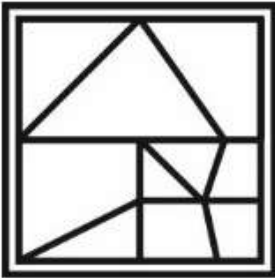
✗ 1.



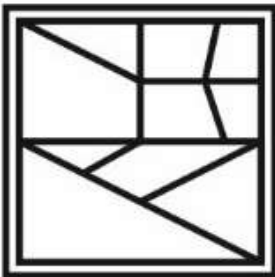
✓ 2.



✗ 3.



✗ 4.



Question Type : MCQ

Question ID : 264330139545

Option 1 ID : 264330546598

Option 2 ID : 264330546597

Option 3 ID : 264330546596

Option 4 ID : 264330546595

Status : Answered

Chosen Option : 2

Q.17 एक निश्चित कूट भाषा में, 'FOUR' को 'ENTQ' लिखा जाता है और 'LIKE' को 'KHJD' लिखा जाता है। उस कूट भाषा में 'DOWN' को कैसे लिखा जाएगा?

- Ans**
- 1. CNUM
 - 2. CMVM
 - 3. CNVO
 - 4. CNVM

Question Type : **MCQ**

Question ID : **264330140037**

Option 1 ID : **264330548530**

Option 2 ID : **264330548529**

Option 3 ID : **264330548528**

Option 4 ID : **264330548527**

Status : **Answered**

Chosen Option : **4**

Q.18 Two statements are given followed by two conclusions numbered I and II. Assuming the statements to be true, even if they seem to be at variance with commonly known facts, decide which of the conclusions logically follow(s) from the statements.

Statements:

All beds are pillows.

No pillow is a blanket.

Conclusions:

I. Some pillows are beds.

II. No bed is a blanket.

- Ans**
- 1. Only conclusion I follows
 - 2. Neither conclusion I nor II follows
 - 3. Only conclusion II follows
 - 4. Both conclusions I and II follow

Question Type : **MCQ**

Question ID : **264330140021**

Option 1 ID : **264330548463**

Option 2 ID : **264330548466**

Option 3 ID : **264330548464**

Option 4 ID : **264330548465**

Status : **Answered**

Chosen Option : **4**

Q.19 निम्नलिखित प्रश्न में, दी गई श्रृंखला में लुप्त संख्या को चुनिए।

500, 497, 488, 461, 380, ?

- Ans
- ✓ 1. 137
 - ✗ 2. 130
 - ✗ 3. 141
 - ✗ 4. 140

Question Type : MCQ

Question ID : 264330140968

Option 1 ID : 264330552220

Option 2 ID : 264330552219

Option 3 ID : 264330552222

Option 4 ID : 264330552221

Status : Answered

Chosen Option : 1

Q.20 (::) के बाईं ओर दिए गए शब्द आपस में किसी तर्क/नियम/संबंध द्वारा संबंधित हैं। समान तर्क/नियम/संबंध के आधार पर दिए गए विकल्पों में से (::) के दाईं ओर लुप्त शब्द/शब्द युग्म को चुनिए।

क्लर्क(Clerk) : कार्यालय :: ?

- Ans
- ✓ 1. योद्धा : युद्ध का मैदान
 - ✗ 2. दुकान : किराना व्यापारी
 - ✗ 3. गैराज : मैकेनिक
 - ✗ 4. अस्पताल: किसान

Question Type : MCQ

Question ID : 264330140958

Option 1 ID : 264330552179

Option 2 ID : 264330552180

Option 3 ID : 264330552181

Option 4 ID : 264330552182

Status : Answered

Chosen Option : 1

Section : General Awareness

Q.1 निम्न में से कौन-सी स्वतंत्रता संग्राम सेनानी उत्तरप्रदेश राज्य की राज्यपाल बनने वाली पहली महिला भी थी?

- Ans
- 1. रानी लक्ष्मीबाई
 - 2. राजकुमारी अमृत कौर
 - 3. कस्तूरबा गांधी
 - 4. सरोजिनी नायडू

Question Type : MCQ
Question ID : 264330140766
Option 1 ID : 264330551412
Option 2 ID : 264330551411
Option 3 ID : 264330551414
Option 4 ID : 264330551413
Status : Answered
Chosen Option : 4

Q.2 भारत में बैडमिंटन के लिए शासी निकाय कौन-सा है?

- Ans
- 1. इंडियन बैडमिंटन एसोसिएशन (Indian Badminton Association)
 - 2. बैडमिंटन एजेंसी ऑफ इंडिया (Badminton Agency of India)
 - 3. बैडमिंटन एसोसिएशन ऑफ इंडिया (Badminton Association of India)
 - 4. इंडियन बैडमिंटन एजेंसी (Indian Badminton Agency)

Question Type : MCQ
Question ID : 264330138975
Option 1 ID : 264330544509
Option 2 ID : 264330544508
Option 3 ID : 264330544507
Option 4 ID : 264330544510
Status : Answered
Chosen Option : 1

Q.3 फरवरी 2022 में कर्मचारी चयन आयोग (SSC) का अध्यक्ष किसे नियुक्त किया गया है?

- Ans
- 1. एस. किशोर
 - 2. राकेश शर्मा
 - 3. के.एस. मणि
 - 4. विनीत जोशी

Question Type : MCQ
Question ID : 264330139731
Option 1 ID : 264330547339
Option 2 ID : 264330547341
Option 3 ID : 264330547340
Option 4 ID : 264330547342
Status : Answered
Chosen Option : 1

Q.4 निम्नलिखित में से कौन-सा संयुक्त क्षेत्र के उद्योग का एक उदाहरण है?

- Ans
- 1. आनंद मिल्क यूनियन लिमिटेड
 - 2. मारुति उद्योग लिमिटेड
 - 3. हिंदुस्तान एरोनॉटिक्स लिमिटेड
 - 4. स्टील ऑथॉरिटी ऑफ इंडिया लिमिटेड

Question Type : MCQ

Question ID : 264330140326

Option 1 ID : 264330549686

Option 2 ID : 264330549685

Option 3 ID : 264330549684

Option 4 ID : 264330549683

Status : Answered

Chosen Option : 1

Q.5 निम्नलिखित में से किस क्षेत्र में चक्रवात को "टाइफून (Typhoon)" के नाम से जाना जाता है?

- Ans
- 1. कनाडा
 - 2. जापान
 - 3. भारत
 - 4. ब्राज़ील

Question Type : MCQ

Question ID : 264330139688

Option 1 ID : 264330547167

Option 2 ID : 264330547170

Option 3 ID : 264330547169

Option 4 ID : 264330547168

Status : Answered

Chosen Option : 2

Q.6 दर्पण एकेडमी ऑफ परफॉर्मिंग आर्ट्स (Darpana Academy of Performing Arts)के संस्थापक और संचालक रह चुके किस प्रसिद्ध भारतीय नर्तक/नर्तकी को 1965 में पद्म श्री पुरस्कार मिला था?

- Ans
- 1. रुक्मिणी देवी अरुंडेल
 - 2. प्रभु देवा
 - 3. मृणालिनी साराभाई
 - 4. पंडित बिरजू महाराज

Question Type : MCQ

Question ID : 264330140770

Option 1 ID : 264330551429

Option 2 ID : 264330551428

Option 3 ID : 264330551427

Option 4 ID : 264330551430

Status : Answered

Chosen Option : 1

Q.7 _____ के पुत्र और उत्तराधिकारी, कुमारगुप्त प्रथम का शासनकाल शांति व्यवस्था और सापेक्षिक निष्क्रियता (relative inactivity) का काल था।

- Ans
- 1. चंद्रगुप्त प्रथम
 - 2. स्कन्दगुप्त
 - 3. समुद्रगुप्त
 - 4. चंद्रगुप्त द्वितीय

Question Type : MCQ

Question ID : 264330140330

Option 1 ID : 264330549699

Option 2 ID : 264330549702

Option 3 ID : 264330549700

Option 4 ID : 264330549701

Status : Not Answered

Chosen Option : --

Q.8 भारत का संविधान अपने _____ को वोट डालने का अधिकार देता है।

- Ans
- 1. सभी पुरुष नागरिकों
 - 2. सभी नागरिक और गैर-नागरिकों
 - 3. सभी करदाताओं
 - 4. सभी वयस्क नागरिकों

Question Type : MCQ

Question ID : 264330140279

Option 1 ID : 264330549496

Option 2 ID : 264330549498

Option 3 ID : 264330549495

Option 4 ID : 264330549497

Status : Answered

Chosen Option : 4

Q.9 दुखद कहानी "ओथेलो (Othello)" के लेखक कौन हैं?

- Ans
- 1. विलियम वर्ड्सवर्थ (William Wordsworth)
 - 2. जोहान्स गुटेनबर्ग (Johannes Gutenberg)
 - 3. विलियम शेक्सपियर (William Shakespeare)
 - 4. चार्ल्स डिकेन्स (Charles Dickens)

Question Type : MCQ

Question ID : 264330140693

Option 1 ID : 264330551119

Option 2 ID : 264330551121

Option 3 ID : 264330551120

Option 4 ID : 264330551122

Status : Not Answered

Chosen Option : --

Q.10 निम्नलिखित में से कौन-सा मिट्टी द्वारा प्रदत्त किए जाने वाले सूक्ष्म पोषक तत्व का एक उदाहरण है?

- Ans
- 1. सल्फर
 - 2. कैल्शियम
 - 3. पोटैशियम
 - 4. आयरन

Question Type : MCQ
Question ID : 264330139686
Option 1 ID : 264330547162
Option 2 ID : 264330547159
Option 3 ID : 264330547160
Option 4 ID : 264330547161
Status : Answered
Chosen Option : 3

Q.11 खेलों के संबंध में, NADA का पूर्णरूप _____ है।

- Ans
- 1. नेशनल ऑटोनोमस डोपिंग असोशिएशन (National Autonomous Doping Association)
 - 2. नेशनल ऑटोनोमस डोपिंग एजेंसी (National Autonomous Doping Agency)
 - 3. नेशनल एंटी-डोपिंग एजेंसी (National Anti-Doping Agency)
 - 4. नेशनल एंटी-डोपिंग असोशिएशन (National Anti-Doping Association)

Question Type : MCQ
Question ID : 264330139726
Option 1 ID : 264330547319
Option 2 ID : 264330547321
Option 3 ID : 264330547320
Option 4 ID : 264330547322
Status : Answered
Chosen Option : 3

Q.12 निम्नलिखित में से कौन-सा RBI द्वारा उपयोग किया जाने वाला एक मौद्रिक नीति-साधन है?

- Ans
- 1. आधार दर
 - 2. बैंक दर
 - 3. बड़ा दर
 - 4. कॉल दर

Question Type : MCQ
Question ID : 264330141070
Option 1 ID : 264330552628
Option 2 ID : 264330552627
Option 3 ID : 264330552630
Option 4 ID : 264330552629
Status : Answered
Chosen Option : 2

Q.13 पश्चिमी घाट और पूर्वी घाट का मिलन स्थल क्या है?

- Ans
- 1. नल्लामाला (Nallamala) पहाड़ियाँ
 - 2. नीलगिरी पहाड़ियाँ
 - 3. पालकोंडा पहाड़ियाँ
 - 4. इलायची पहाड़ियाँ

Question Type : MCQ
Question ID : 264330140761
Option 1 ID : 264330551391
Option 2 ID : 264330551394
Option 3 ID : 264330551392
Option 4 ID : 264330551393
Status : Answered
Chosen Option : 1

Q.14 भारत की सीमा पश्चिम बंगाल के पूर्व में निम्नलिखित में से किस देश से लगती है?

- Ans
- 1. चीन
 - 2. बांग्लादेश
 - 3. पाकिस्तान
 - 4. अफ़ग़ानिस्तान

Question Type : MCQ
Question ID : 264330141058
Option 1 ID : 264330552581
Option 2 ID : 264330552582
Option 3 ID : 264330552579
Option 4 ID : 264330552580
Status : Answered
Chosen Option : 2

Q.15 वर्ष 1526 में पानीपत के प्रथम युद्ध में बाबर ने किस सुल्तान को पराजित किया था?

- Ans
- 1. इब्राहिम लोदी
 - 2. सिकंदर लोदी
 - 3. बहलोल लोदी
 - 4. महमूद लोदी

Question Type : MCQ
Question ID : 264330138968
Option 1 ID : 264330544481
Option 2 ID : 264330544480
Option 3 ID : 264330544479
Option 4 ID : 264330544482
Status : Answered
Chosen Option : 1

Q.16 _____ में स्थित गणेश रथ मंदिर सबसे बेहतरीन एकात्मक मंदिरों में से एक है।

- Ans
- 1. नागपुर
 - 2. सोमनाथ
 - 3. महाबलीपुरम
 - 4. वाराणसी

Question Type : MCQ
Question ID : 264330140705
Option 1 ID : 264330551168
Option 2 ID : 264330551169
Option 3 ID : 264330551167
Option 4 ID : 264330551170
Status : Answered
Chosen Option : 3

Q.17 बदरुद्दीन तैयबजी ने सन् _____ में अध्यक्ष के रूप में कांग्रेस को संबोधित किया था।

- Ans
- 1. 1886
 - 2. 1888
 - 3. 1887
 - 4. 1885

Question Type : MCQ
Question ID : 264330139697
Option 1 ID : 264330547204
Option 2 ID : 264330547206
Option 3 ID : 264330547205
Option 4 ID : 264330547203
Status : Answered
Chosen Option : 2

Q.18 अली अकबर खाँ का संबंध इनमें से किस वाद्ययंत्र से है?

- Ans
- 1. तबला
 - 2. सितार
 - 3. शहनाई
 - 4. सरोद

Question Type : MCQ
Question ID : 264330139679
Option 1 ID : 264330547132
Option 2 ID : 264330547131
Option 3 ID : 264330547133
Option 4 ID : 264330547134
Status : Answered
Chosen Option : 1

Q.19 कौन-सा मंत्रालय "डीप ओशन मिशन" से संबंधित है?

- Ans
- 1. पर्यावरण, वन और जलवायु परिवर्तन मंत्रालय
 - 2. खान मंत्रालय
 - 3. रक्षा मंत्रालय
 - 4. पृथ्वी विज्ञान मंत्रालय

Question Type : MCQ
Question ID : 264330138980
Option 1 ID : 264330544529
Option 2 ID : 264330544528
Option 3 ID : 264330544527
Option 4 ID : 264330544530
Status : Answered
Chosen Option : 1

Q.20 होलिका दहन का त्योहार _____ का प्रतीक है।

- Ans
- 1. बुआई के मौसम (sowing season) की शुरुआत
 - 2. महिषासुर पर देवी दुर्गा की विजय
 - 3. बुराई पर अच्छाई की जीत
 - 4. नववर्ष की शुरुआत

Question Type : MCQ
Question ID : 264330140679
Option 1 ID : 264330551065
Option 2 ID : 264330551064
Option 3 ID : 264330551066
Option 4 ID : 264330551063
Status : Answered
Chosen Option : 1

Q.21 राष्ट्रीय साक्षरता मिशन (National Literacy Mission (एनएलएम NLM)) का गठन सन् _____ में किया गया था।

- Ans
- 1. 1971
 - 2. 1998
 - 3. 1988
 - 4. 1982

Question Type : MCQ
Question ID : 264330140917
Option 1 ID : 264330552016
Option 2 ID : 264330552018
Option 3 ID : 264330552017
Option 4 ID : 264330552015
Status : Not Answered
Chosen Option : --

Q.22 किस भारतीय मंत्रालय ने कृषि कानून निरसन विधेयक (Farm Laws Repeal Bill), 2021 पेश किया?

- Ans
- 1. वित्त मंत्रालय
 - 2. कृषि और किसान कल्याण मंत्रालय
 - 3. पंचायती राज मंत्रालय
 - 4. ग्रामीण विकास मंत्रालय

Question Type : MCQ

Question ID : 264330140677

Option 1 ID : 264330551056

Option 2 ID : 264330551055

Option 3 ID : 264330551058

Option 4 ID : 264330551057

Status : Answered

Chosen Option : 2

Q.23 निम्नलिखित में से कौन-सा खनिज थायराइड हार्मोन (थायराक्सीन) के संश्लेषण के लिए अनिवार्य है?

- Ans
- 1. आयोडीन
 - 2. सिलीनियम
 - 3. क्रोमियम
 - 4. आयरन

Question Type : MCQ

Question ID : 264330140324

Option 1 ID : 264330549675

Option 2 ID : 264330549677

Option 3 ID : 264330549678

Option 4 ID : 264330549676

Status : Answered

Chosen Option : 1

Q.24 लिटमस विलयन जब न तो अम्लीय होता है और न ही क्षारकीय होता है, तब यह _____ रंग का होता है।

- Ans
- 1. नीला
 - 2. लाल
 - 3. हरा
 - 4. बैंगनी

Question Type : MCQ

Question ID : 264330138962

Option 1 ID : 264330544455

Option 2 ID : 264330544458

Option 3 ID : 264330544456

Option 4 ID : 264330544457

Status : Not Answered

Chosen Option : --

Q.25 _____ की मुद्राओं को चिदंबरम मंदिर (तमिलनाडु) के गोपुरम (gopurams) पर चित्रित किया गया है।

- Ans
- 1. मोहिनीअट्टम
 - 2. भरतनाट्यम
 - 3. कथक
 - 4. कथकली

Question Type : MCQ
Question ID : 264330140933
Option 1 ID : 264330552082
Option 2 ID : 264330552079
Option 3 ID : 264330552080
Option 4 ID : 264330552081
Status : Answered
Chosen Option : 2

Section : English Language and Comprehension

Q.1 Select the most appropriate synonym to substitute the bracketed word in the given sentence.

Unfortunately he is merely the head of a rabble of warlords who are (firmly) rooted in the past.

- Ans
- 1. Feebly
 - 2. Impotently
 - 3. Stiffly
 - 4. Languidly

Question Type : MCQ
Question ID : 264330136204
Option 1 ID : 264330533608
Option 2 ID : 264330533610
Option 3 ID : 264330533607
Option 4 ID : 264330533609
Status : Answered
Chosen Option : 3

Q.2 Select the word segment that substitutes (replaces) the bracketed word segment correctly and completes the sentence meaningfully. Select the option 'no correction required' if the sentence is correct as given.

They (are waiting) for the bus when the accident happened.

- Ans
- 1. were waiting
 - 2. No correction required
 - 3. have waited
 - 4. have been waiting

Question Type : MCQ
Question ID : 264330136566
Option 1 ID : 264330535000
Option 2 ID : 264330535002
Option 3 ID : 264330535001
Option 4 ID : 264330534999
Status : Answered
Chosen Option : 1

Q.3 Select the word from the options which is exactly opposite in meaning to the bracketed word given in the sentence below.

Ruffin is seeking that (harmony) of humour in truth-telling amid despair.

- Ans**
- ✓ 1. Discord
 - ✗ 2. Determination
 - ✗ 3. Sectional
 - ✗ 4. Conformity

Question Type : **MCQ**
Question ID : **264330136284**
Option 1 ID : **264330533918**
Option 2 ID : **264330533916**
Option 3 ID : **264330533917**
Option 4 ID : **264330533915**
Status : **Answered**
Chosen Option : **1**

Q.4 Improve the underlined part of the sentence. Choose 'No improvement' as an answer if the sentence is grammatically correct.

You have exactly one hour to completes the exam.

- Ans**
- ✓ 1. hour to complete
 - ✗ 2. hour to completed
 - ✗ 3. hourly to complete
 - ✗ 4. No improvement

Question Type : **MCQ**
Question ID : **264330141168**
Option 1 ID : **264330553015**
Option 2 ID : **264330553016**
Option 3 ID : **264330553017**
Option 4 ID : **264330553018**
Status : **Answered**
Chosen Option : **1**

Q.5 Select the word segment that substitutes (replaces) the bracketed word segment correctly and completes the sentence meaningfully. Select the option 'no correction required' if the sentence is correct as given.

Christian turned round and (strided off into) the blackness and I got into my car.

- Ans**
- ✗ 1. strided of
 - ✓ 2. strode off
 - ✗ 3. No correction required
 - ✗ 4. strode of

Question Type : **MCQ**
Question ID : **264330135745**
Option 1 ID : **264330531863**
Option 2 ID : **264330531865**
Option 3 ID : **264330531866**
Option 4 ID : **264330531864**
Status : **Answered**
Chosen Option : **3**

Q.6 Select the most appropriate word for the given group of words.

Ethically good behaviour one has

- Ans
- 1. Belief
 - 2. Virtue
 - 3. Values
 - 4. Virtual

Question Type : MCQ
Question ID : 264330136424
Option 1 ID : 264330534458
Option 2 ID : 264330534457
Option 3 ID : 264330534456
Option 4 ID : 264330534455
Status : Answered
Chosen Option : 2

Q.7 Select the most appropriate option to fill in the blank.

_____ in biotechnology and medicine have resulted in higher expectancy rate and lower mortality rate.

- Ans
- 1. Advancements
 - 2. Saturation
 - 3. Aversions
 - 4. Arrogate

Question Type : MCQ
Question ID : 264330136767
Option 1 ID : 264330535773
Option 2 ID : 264330535772
Option 3 ID : 264330535774
Option 4 ID : 264330535771
Status : Answered
Chosen Option : 1

Q.8 Select the most appropriate option to fill in the blank.

After the first defeats he had to _____ from France with the empress.

- Ans
- 1. Fleet
 - 2. Flea
 - 3. Fling
 - 4. Flee

Question Type : MCQ
Question ID : 264330141215
Option 1 ID : 264330553196
Option 2 ID : 264330553197
Option 3 ID : 264330553198
Option 4 ID : 264330553195
Status : Answered
Chosen Option : 1

Q.9 In the following question, out of the given four alternatives, select the alternative which best expresses the meaning of the Idiom/Phrase.

Bite the bullet

- Ans**
- 1. To ruin oneself
 - 2. Decide to do something that is difficult
 - 3. Peace talking
 - 4. To bring harm to someone

Question Type : **MCQ**
Question ID : **264330135658**
Option 1 ID : **264330531528**
Option 2 ID : **264330531530**
Option 3 ID : **264330531527**
Option 4 ID : **264330531529**
Status : **Answered**
Chosen Option : **2**

Q.10 Find the part of the given sentence that has an error in it. If there is no error, choose 'No error'.
Humans are drawn to foods that is fatty, sweet, rich and complex.

- Ans**
- 1. Humans are drawn to
 - 2. sweet, rich and complex.
 - 3. foods that is fatty,
 - 4. No error

Question Type : **MCQ**
Question ID : **264330141211**
Option 1 ID : **264330553179**
Option 2 ID : **264330553181**
Option 3 ID : **264330553180**
Option 4 ID : **264330553182**
Status : **Answered**
Chosen Option : **3**

Q.11 Select the most appropriate option to fill in the blank.

Someone thinks Charles should _____ the British throne and come out here instead.

- Ans**
- 1. reciprocate
 - 2. decorticate
 - 3. authenticate
 - 4. abdicate

Question Type : **MCQ**
Question ID : **264330135669**
Option 1 ID : **264330531573**
Option 2 ID : **264330531574**
Option 3 ID : **264330531571**
Option 4 ID : **264330531572**
Status : **Answered**
Chosen Option : **4**

Q.12 Select the most appropriate option to fill in the blank.

Inclusive of private packs it is difficult to _____ more than an overall total of 60 drag and/or bloodhound packs.

- Ans
- 1. package
 - 2. haemorrhage
 - 3. envisage
 - 4. discourage

Question Type : **MCQ**
Question ID : **264330136369**
Option 1 ID : **264330534243**
Option 2 ID : **264330534245**
Option 3 ID : **264330534246**
Option 4 ID : **264330534244**
Status : **Answered**
Chosen Option : **3**

Q.13 Identify the segment that contains a grammatical error. If there is no error, select 'No error'.

Far, far at the top of them, / a shower of bright red sparks / had flared among the stars.

- Ans
- 1. a shower of bright red sparks
 - 2. had flared among the stars.
 - 3. No error
 - 4. Far, far at the top of them,

Question Type : **MCQ**
Question ID : **264330136109**
Option 1 ID : **264330533244**
Option 2 ID : **264330533245**
Option 3 ID : **264330533246**
Option 4 ID : **264330533243**
Status : **Answered**
Chosen Option : **4**

Q.14 Select the most appropriate meaning of the given idiom.

Ethnic Cleansing

- Ans
- 1. One who was previously unknown and is now prominent
 - 2. Killing of a certain ethnic or religious group on a massive scale
 - 3. Worshiping of a certain ethnic or religious group on a massive scale
 - 4. A large number of people either falling ill or dying

Question Type : **MCQ**
Question ID : **264330135839**
Option 1 ID : **264330532223**
Option 2 ID : **264330532226**
Option 3 ID : **264330532225**
Option 4 ID : **264330532224**
Status : **Answered**
Chosen Option : **1**

Q.15 Select the most appropriate synonym of the given word.

Contradict

Ans 1. Verify

2. Contravene

3. Permit

4. Vouch

Question Type : MCQ

Question ID : 264330135757

Option 1 ID : 264330531908

Option 2 ID : 264330531909

Option 3 ID : 264330531907

Option 4 ID : 264330531910

Status : Answered

Chosen Option : 2

Q.16 Choose the incorrectly spelt word.

Ans 1. Graviety

2. Pattern

3. Sober

4. Major

Question Type : MCQ

Question ID : 264330135174

Option 1 ID : 264330529630

Option 2 ID : 264330529629

Option 3 ID : 264330529628

Option 4 ID : 264330529627

Status : Answered

Chosen Option : 1

Q.17 Select the wrongly spelt word.

Ans 1. paneche

2. palatial

3. scurvy

4. oblique

Question Type : MCQ

Question ID : 264330135686

Option 1 ID : 264330531637

Option 2 ID : 264330531636

Option 3 ID : 264330531635

Option 4 ID : 264330531638

Status : Answered

Chosen Option : 1

Q.18 Select the most appropriate antonym of the given word.

Abundant

- Ans
- 1. Meagre
 - 2. Unreliable
 - 3. Indefinite
 - 4. Unconscious

Question Type : **MCQ**
Question ID : **264330136501**
Option 1 ID : **264330534747**
Option 2 ID : **264330534749**
Option 3 ID : **264330534750**
Option 4 ID : **264330534748**
Status : **Answered**
Chosen Option : **1**

Q.19 Select the most appropriate word for the given group of words.

A person who has money especially invested in business

- Ans
- 1. Capitalist
 - 2. Leftist
 - 3. Minimalist
 - 4. Industrialist

Question Type : **MCQ**
Question ID : **264330136150**
Option 1 ID : **264330533399**
Option 2 ID : **264330533401**
Option 3 ID : **264330533400**
Option 4 ID : **264330533402**
Status : **Answered**
Chosen Option : **1**

Q.20 Identify the segment that contains a grammatical error. If there is no error, select 'No error'.

I could not make out what / it is, for the wind was / rustling the corn-shocks.

- Ans
- 1. I could not make out what
 - 2. it is, for the wind was
 - 3. No error
 - 4. rustling the corn-shocks.

Question Type : **MCQ**
Question ID : **264330135691**
Option 1 ID : **264330531655**
Option 2 ID : **264330531656**
Option 3 ID : **264330531658**
Option 4 ID : **264330531657**
Status : **Answered**
Chosen Option : **2**

Comprehension:

In the following passage some words have been deleted. Fill in the blanks with the help of the alternatives given. Select the most appropriate option for each number.

I wished I (1) _____ teach this to Dhri as well, but I feared it was too (2) _____. Already he had started thinking like the men (3) _____ him, embracing the world of the court with open arms. And I? Each day I thought less and (4) _____ like the women around me. Each day I moved further from them (5) _____ a dusky solitude.

SubQuestion No : 21

Q.21 Select the most appropriate option to fill in blank number 1.

- Ans**
- 1. can
 - 2. may
 - 3. would
 - 4. could

Question Type : **MCQ**
Question ID : **264330136170**
Option 1 ID : **264330533477**
Option 2 ID : **264330533478**
Option 3 ID : **264330533475**
Option 4 ID : **264330533476**
Status : **Answered**
Chosen Option : **4**

Comprehension:

In the following passage some words have been deleted. Fill in the blanks with the help of the alternatives given. Select the most appropriate option for each number.

I wished I (1) _____ teach this to Dhri as well, but I feared it was too (2) _____. Already he had started thinking like the men (3) _____ him, embracing the world of the court with open arms. And I? Each day I thought less and (4) _____ like the women around me. Each day I moved further from them (5) _____ a dusky solitude.

SubQuestion No : 22

Q.22 Select the most appropriate option to fill in blank number 2.

- Ans**
- 1. late
 - 2. last minute
 - 3. early
 - 4. later

Question Type : **MCQ**
Question ID : **264330136171**
Option 1 ID : **264330533482**
Option 2 ID : **264330533481**
Option 3 ID : **264330533479**
Option 4 ID : **264330533480**
Status : **Answered**
Chosen Option : **1**

Comprehension:

In the following passage some words have been deleted. Fill in the blanks with the help of the alternatives given. Select the most appropriate option for each number.

I wished I (1) _____ teach this to Dhri as well, but I feared it was too (2) _____. Already he had started thinking like the men (3) _____ him, embracing the world of the court with open arms. And I? Each day I thought less and (4) _____ like the women around me. Each day I moved further from them (5) _____ a dusky solitude.

SubQuestion No : 23

Q.23 Select the most appropriate option to fill in blank number 3.

- Ans**
- 1. around
 - 2. surmounting
 - 3. rotating
 - 4. revolving

Question Type : **MCQ**
Question ID : **264330136172**
Option 1 ID : **264330533483**
Option 2 ID : **264330533486**
Option 3 ID : **264330533485**
Option 4 ID : **264330533484**
Status : **Answered**
Chosen Option : **1**

Comprehension:

In the following passage some words have been deleted. Fill in the blanks with the help of the alternatives given. Select the most appropriate option for each number.

I wished I (1) _____ teach this to Dhri as well, but I feared it was too (2) _____. Already he had started thinking like the men (3) _____ him, embracing the world of the court with open arms. And I? Each day I thought less and (4) _____ like the women around me. Each day I moved further from them (5) _____ a dusky solitude.

SubQuestion No : 24

Q.24 Select the most appropriate option to fill in blank number 4.

- Ans**
- 1. little
 - 2. less
 - 3. more
 - 4. limited

Question Type : **MCQ**
Question ID : **264330136173**
Option 1 ID : **264330533488**
Option 2 ID : **264330533489**
Option 3 ID : **264330533487**
Option 4 ID : **264330533490**
Status : **Answered**
Chosen Option : **4**

Comprehension:

In the following passage some words have been deleted. Fill in the blanks with the help of the alternatives given. Select the most appropriate option for each number.

I wished I (1) _____ teach this to Dhri as well, but I feared it was too (2) _____. Already he had started thinking like the men (3) _____ him, embracing the world of the court with open arms. And I? Each day I thought less and (4) _____ like the women around me. Each day I moved further from them (5) _____ a dusky solitude.

SubQuestion No : 25

Q.25 Select the most appropriate option to fill in blank number 5.

- Ans**
- 1. inner
 - 2. on to
 - 3. up to
 - 4. into

Question Type : **MCQ**

Question ID : **264330136174**

Option 1 ID : **264330533492**

Option 2 ID : **264330533491**

Option 3 ID : **264330533494**

Option 4 ID : **264330533493**

Status : **Answered**

Chosen Option : **4**

Multi Tasking Non Technical Staff and Havaladar CBIC and CBN Examination 2022

Roll Number	KD Job Updates
Candidate Name	KD Job Updates
Venue Name	New Age Technologies
Exam Date	13/06/2023
Exam Time	3:30 PM - 5:00 PM
Subject	MTS Non Tech Havaladar CBIC and CBN Examination 2022

Section : Numerical and Mathematical Ability

Q.1 एक व्यक्ति साधारण ब्याज पर 5 प्रतिशत वार्षिक दर पर एक निश्चित धनराशि ऋण पर देता है। 4 वर्षों में, ब्याज की राशि Rs. 800 हो जाती है। ऋण पर दी गई राशि क्या है?

- Ans
- 1. Rs. 3200
 - 2. Rs. 2000
 - 3. Rs. 4000
 - 4. Rs. 1600

Question Type : MCQ
Question ID : 264330140249
Option 1 ID : 264330549378
Option 2 ID : 264330549375
Option 3 ID : 264330549377
Option 4 ID : 264330549376
Status : Answered
Chosen Option : 3

Q.2 दो प्रकार के चावलों का मूल्य Rs. 60 प्रति किलोग्राम (per kg) और Rs. 84 प्रति किलोग्राम है। यदि दोनों चावलों को एक साथ 1:1 के अनुपात में मिला दिया जाए, तो मिश्रित किस्म के चावल का प्रति किलोग्राम मूल्य क्या होना चाहिए?

- Ans
- 1. Rs. 76 प्रति किलोग्राम
 - 2. Rs. 72 प्रति किलोग्राम
 - 3. Rs. 68 प्रति किलोग्राम
 - 4. Rs. 80 प्रति किलोग्राम

Question Type : MCQ
Question ID : 264330134084
Option 1 ID : 264330525361
Option 2 ID : 264330525360
Option 3 ID : 264330525359
Option 4 ID : 264330525362
Status : Answered
Chosen Option : 2

Q.3 यदि ब्याज अर्धवार्षिक रूप से संयोजित हो रहा है और ब्याज की दर 20 प्रतिशत वार्षिक है, तो कितने समय में Rs.15000 की राशि चक्रवृद्धि ब्याज पर Rs.19965 हो जाएगी?

- Ans
- 1. 30 माह में
 - 2. 12 माह में
 - 3. 18 माह में
 - 4. 24 माह में

Question Type : MCQ
Question ID : 264330140250
Option 1 ID : 264330549382
Option 2 ID : 264330549380
Option 3 ID : 264330549379
Option 4 ID : 264330549381
Status : Answered
Chosen Option : 3

Q.4 24 cm त्रिज्या वाले एक अर्धगोले को पिघलाकर 6 cm त्रिज्या वाली कितनी गोलाकार गेंदें बनाई जा सकती हैं?

- Ans
- 1. 32
 - 2. 64
 - 3. 96
 - 4. 24

Question Type : MCQ
Question ID : 264330140166
Option 1 ID : 264330549045
Option 2 ID : 264330549046
Option 3 ID : 264330549043
Option 4 ID : 264330549044
Status : Answered
Chosen Option : 2

Q.5 एक आदमी एक निश्चित दूरी का आधा भाग 15 km/hr की चाल से तय करता है। वह शेष दूरी का 40 प्रतिशत भाग 12 km/hr की चाल से तय करता है और शेष दूरी 21 km/hr की चाल से तय करता है। पूरी यात्रा में उसकी औसत चाल क्या है?

- Ans
- 1. 164/9 km/hr
 - 2. 139/9 km/hr
 - 3. 140/9 km/hr
 - 4. 15 km/hr

Question Type : MCQ
Question ID : 264330140217
Option 1 ID : 264330549249
Option 2 ID : 264330549247
Option 3 ID : 264330549248
Option 4 ID : 264330549250
Status : Answered
Chosen Option : 3

Q.6 नीचे दी गई तालिका में पाँच कंपनियों की आय और व्यय को दर्शाया गया है।

कंपनियाँ	आय	व्यय
A	55	50
B	50	40
C	35	32
D	40	35
E	60	50

सभी कंपनियों की औसत आय और औसत व्यय के बीच कितना अंतर है?

- Ans
- ✓ 1. 6.6
 - ✗ 2. 2.6
 - ✗ 3. 4.2
 - ✗ 4. 8.4

Question Type : MCQ

Question ID : 264330139949

Option 1 ID : 264330548176

Option 2 ID : 264330548178

Option 3 ID : 264330548175

Option 4 ID : 264330548177

Status : Answered

Chosen Option : 1

Q.7 कुछ लड़कियाँ किसी कार्य को 10 दिनों में कर सकती हैं। इन लड़कियों से दोगुनी लड़कियाँ समान कार्य का चार गुना कार्य कितने समय में पूरा करेंगी?

- Ans
- ✗ 1. 25 दिनों में
 - ✗ 2. 30 दिनों में
 - ✗ 3. 10 दिनों में
 - ✓ 4. 20 दिनों में

Question Type : MCQ

Question ID : 264330140611

Option 1 ID : 264330550792

Option 2 ID : 264330550794

Option 3 ID : 264330550791

Option 4 ID : 264330550793

Status : Answered

Chosen Option : 4

Q.8 नीलम और रजनी की वर्तमान आयु का अनुपात 6 : 5 है। छः वर्ष बाद, उनकी आयु का अनुपात 13 : 11 होगा। रजनी की वर्तमान आयु कितनी है?

- Ans
- 1. 30 वर्ष
 - 2. 75 वर्ष
 - 3. 45 वर्ष
 - 4. 60 वर्ष

Question Type : MCQ
Question ID : 264330140201
Option 1 ID : 264330549183
Option 2 ID : 264330549186
Option 3 ID : 264330549185
Option 4 ID : 264330549184
Status : Answered
Chosen Option : 4

Q.9 $\sqrt{0.33 \times 0.33 + 0.6 \times 0.6 + 1.2 \times 0.33}$ का मान क्या है?

- Ans
- 1. 0.69
 - 2. 0.93
 - 3. 0.39
 - 4. 0.73

Question Type : MCQ
Question ID : 264330140230
Option 1 ID : 264330549301
Option 2 ID : 264330549302
Option 3 ID : 264330549299
Option 4 ID : 264330549300
Status : Answered
Chosen Option : 2

Q.10 यदि कुल वस्तुओं का 80 प्रतिशत, 25 प्रतिशत की हानि पर बेचा जाता है और शेष वस्तुओं को 20 प्रतिशत के लाभ पर बेचा जाता है, तो कुल हानि प्रतिशत क्या होगा?

- Ans
- 1. 18 प्रतिशत
 - 2. 22 प्रतिशत
 - 3. 20 प्रतिशत
 - 4. 16 प्रतिशत

Question Type : MCQ
Question ID : 264330139918
Option 1 ID : 264330548053
Option 2 ID : 264330548051
Option 3 ID : 264330548052
Option 4 ID : 264330548054
Status : Answered
Chosen Option : 4

Q.11 धारा के प्रतिकूल एक नाव की चाल 8 km/hr है और धारा की चाल 4 km/hr है। नाव धारा के प्रतिकूल x किमी और धारा के अनुकूल x किमी की दूरी तय करती है। यदि नाव द्वारा लिया गया कुल समय 9 घंटे है, तो x का मान क्या है?

- Ans
- 1. 60 km
 - 2. 48 km
 - 3. 72 km
 - 4. 36 km

Question Type : MCQ

Question ID : 264330139933

Option 1 ID : 264330548114

Option 2 ID : 264330548113

Option 3 ID : 264330548111

Option 4 ID : 264330548112

Status : Answered

Chosen Option : 2

Q.12 शिवम, विवेक से 20 प्रतिशत कम कुशल है। यदि विवेक 12 दिनों में एक हेलमेट बना सकता है, तो शिवम उसी हेलमेट को कितने दिनों में बना सकता है?

- Ans
- 1. 18 दिनों में
 - 2. 12 दिनों में
 - 3. 15 दिनों में
 - 4. 14 दिनों में

Question Type : MCQ

Question ID : 264330139891

Option 1 ID : 264330547943

Option 2 ID : 264330547945

Option 3 ID : 264330547944

Option 4 ID : 264330547946

Status : Answered

Chosen Option : 3

Q.13 एक पेन का अंकित मूल्य Rs. 20 है। 5% के बढ़ते के बाद ऐसे 5 पेन का कुल विक्रय मूल्य क्या होगा?

- Ans
- 1. Rs. 90
 - 2. Rs. 95
 - 3. Rs. 105
 - 4. Rs. 100

Question Type : MCQ

Question ID : 264330140806

Option 1 ID : 264330551572

Option 2 ID : 264330551571

Option 3 ID : 264330551574

Option 4 ID : 264330551573

Status : Answered

Chosen Option : 2

Q.14 एक व्यापारी ने एक वस्तु को 20% की हानि पर बेचा। यदि उसने इसे Rs. 390 अधिक में बेचा होता, तो क्रय मूल्य पर 6% का लाभ होता। वस्तु का क्रय मूल्य क्या है?

- Ans
- 1. Rs. 1200
 - 2. Rs. 1500
 - 3. Rs. 2600
 - 4. Rs. 1800

Question Type : MCQ

Question ID : 264330139042

Option 1 ID : 264330544778

Option 2 ID : 264330544777

Option 3 ID : 264330544775

Option 4 ID : 264330544776

Status : Answered

Chosen Option : 2

Q.15 यदि किसी संख्या के 30 प्रतिशत में से 60 घटाया जाए, तो परिणाम 120 आता है। संख्या का मान क्या है?

- Ans
- 1. 600
 - 2. 700
 - 3. 630
 - 4. 550

Question Type : MCQ

Question ID : 264330140588

Option 1 ID : 264330550703

Option 2 ID : 264330550706

Option 3 ID : 264330550705

Option 4 ID : 264330550704

Status : Answered

Chosen Option : 1

Q.16 तीन साझेदारों P, Q और R ने एक व्यवसाय में कुल Rs.52,000 का निवेश किया। वर्ष के अंत में लाभ के हिस्से के रूप में, P को Rs.1430, Q को Rs.1870 और R को Rs.2420 मिले। Q ने व्यवसाय में कितनी राशि का निवेश किया?

- Ans
- 1. Rs. 15300
 - 2. Rs. 18700
 - 3. Rs. 17000
 - 4. Rs. 20400

Question Type : MCQ

Question ID : 264330139900

Option 1 ID : 264330547979

Option 2 ID : 264330547982

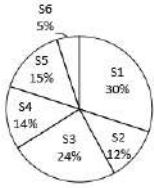
Option 3 ID : 264330547980

Option 4 ID : 264330547981

Status : Answered

Chosen Option : 3

Q.17 नीचे दिए गए वृत्त आलेख में एक छात्र द्वारा 6 अलग-अलग विषयों में प्राप्त किए गए अंकों को दर्शाया गया है। छात्र द्वारा प्राप्त कुल अंक 500 हैं। इनमें से किसी एक विशिष्ट विषय में प्राप्त अंकों को इन सभी 6 विषयों में प्राप्त कुल अंकों के प्रतिशत के रूप में दर्शाया गया है।



S3 में प्राप्त अंकों और S4 में प्राप्त अंकों का अनुपात क्या है?

- Ans
- 1. 12 : 5
 - 2. 2 : 1
 - 3. 5 : 6
 - 4. 12 : 7

Question Type : MCQ

Question ID : 264330140602

Option 1 ID : 264330550761

Option 2 ID : 264330550759

Option 3 ID : 264330550760

Option 4 ID : 264330550762

Status : Answered

Chosen Option : 4

Q.18 एक समलंब की दो समांतर भुजाओं की लंबाई 25 मीटर और 30 मीटर है। यदि इसकी ऊँचाई 20 मीटर है, तो समलंब का क्षेत्रफल कितना है?

- Ans
- 1. 550 metre²
 - 2. 420 metre²
 - 3. 350 metre²
 - 4. 590 metre²

Question Type : MCQ

Question ID : 264330140207

Option 1 ID : 264330549210

Option 2 ID : 264330549208

Option 3 ID : 264330549207

Option 4 ID : 264330549209

Status : Answered

Chosen Option : 1

Q.19 $\frac{99 \div 33 + 44 \div 11}{24 \div 12 - 4 + 3}$ का मान क्या है?

- Ans
- 1. 6
 - 2. 1
 - 3. 8
 - 4. 4

Question Type : MCQ

Question ID : 264330139907

Option 1 ID : 264330548009

Option 2 ID : 264330548007

Option 3 ID : 264330548010

Option 4 ID : 264330548008

Status : Answered

Chosen Option : 4

Q.20 $\frac{3}{8}$ और $\frac{4}{9}$ का महत्तम समापवर्तक क्या है?

- Ans
- 1. $\frac{1}{18}$
 - 2. $\frac{1}{108}$
 - 3. $\frac{1}{36}$
 - 4. $\frac{1}{72}$

Question Type : MCQ

Question ID : 264330140188

Option 1 ID : 264330549133

Option 2 ID : 264330549134

Option 3 ID : 264330549132

Option 4 ID : 264330549131

Status : Answered

Chosen Option : 4

Section : Reasoning Ability and Problem Solving

Q.1 दिए गए समीकरण को सही करने के लिए किन दो संख्याओं को आपस में बदला जाना चाहिए?

$$4 + 40 \times 5 - 16 \div 8 = 79$$

- Ans
- 1. 40 और 16
 - 2. 4 और 40
 - 3. 16 और 4
 - 4. 5 और 16

Question Type : MCQ

Question ID : 264330140049

Option 1 ID : 264330548577

Option 2 ID : 264330548575

Option 3 ID : 264330548578

Option 4 ID : 264330548576

Status : Answered

Chosen Option : 1

Q.2 निम्नलिखित पक्ष में कुछ कथन दिए गए हैं और उन कथनों के आधार पर कुछ निष्कर्ष दिए गए हैं। आपको मानना है कि दिए गए कथन सत्य हैं चाहे वे समान्यतः ज्ञात तथ्यों से अलग प्रतीत होते हों। सभी निष्कर्षों को पढ़िए और फिर निश्चय कीजिए कि दिए गए निष्कर्षों में से कौन-सा निष्कर्ष तार्किक रूप से दिए गए कथनों के अनुसार है।

कथन:

- I. सभी J, Y हैं।
- II. कोई X, Y नहीं है।

निष्कर्ष:

- I. कुछ X, Y नहीं हैं।
- II. कुछ J, X नहीं हैं।

- Ans**
- 1. केवल निष्कर्ष II कथनों के अनुसार है
 - 2. केवल निष्कर्ष I कथनों के अनुसार है
 - 3. दोनों निष्कर्ष I और II कथनों के अनुसार हैं
 - 4. कोई भी निष्कर्ष कथनों के अनुसार नहीं है

Question Type : **MCQ**

Question ID : **264330140062**

Option 1 ID : **264330548628**

Option 2 ID : **264330548627**

Option 3 ID : **264330548629**

Option 4 ID : **264330548630**

Status : **Answered**

Chosen Option : **3**

Q.3 एक निश्चित कूट भाषा में, 'RAUGHT' को 'TYWEJR' लिखा जाता है और 'DOMINE' को 'FMOGPC' लिखा जाता है। उस कूट भाषा में 'BACKER' को कैसे लिखा जाएगा?

- Ans**
- 1. DYEKGP
 - 2. DYEIHP
 - 3. DYEIGP
 - 4. DYEJIP

Question Type : **MCQ**

Question ID : **264330140476**

Option 1 ID : **264330550283**

Option 2 ID : **264330550285**

Option 3 ID : **264330550284**

Option 4 ID : **264330550286**

Status : **Answered**

Chosen Option : **3**

Q.4 एक निश्चित कूट भाषा में, 'BURN' को 'CVS14' लिखा जाता है। उस कूट भाषा में 'GOLD' को कैसे लिखा जाएगा?

- Ans**
- 1. HP4M
 - 2. PHM4
 - 3. HMP4
 - 4. HPM4

Question Type : **MCQ**

Question ID : **264330138770**

Option 1 ID : **264330543688**

Option 2 ID : **264330543690**

Option 3 ID : **264330543687**

Option 4 ID : **264330543689**

Status : **Answered**

Chosen Option : **4**

Q.5 उस विकल्प को चुनिए जो तीसरी संख्या से ठीक उसी प्रकार संबंधित है जिस प्रकार दूसरी संख्या पहली संख्या से संबंधित है।

236 : 33 :: 325 : ?

Ans 1. 30

2. 27

3. 63

4. 33

Question Type : MCQ

Question ID : 264330140106

Option 1 ID : 264330548804

Option 2 ID : 264330548805

Option 3 ID : 264330548803

Option 4 ID : 264330548806

Status : Answered

Chosen Option : 1

Q.6 उस विकल्प को चुनिए जो तीसरे शब्द से ठीक उसी प्रकार संबंधित है जिस प्रकार दूसरा शब्द पहले शब्द से संबंधित है।

गठिया : जोड़ :: दमा : ?

Ans 1. यकृत

2. हृदय

3. मस्तिष्क

4. फेफड़े

Question Type : MCQ

Question ID : 264330140094

Option 1 ID : 264330548758

Option 2 ID : 264330548755

Option 3 ID : 264330548756

Option 4 ID : 264330548757

Status : Answered

Chosen Option : 4

Q.7 दी गई श्रृंखला में निम्नलिखित में से कौन-सी संख्या प्रश्न चिन्ह (?) के स्थान पर आएगी?

89, 170, 219, 244, 253, ?

Ans 1. 254

2. 255

3. 256

4. 257

Question Type : MCQ

Question ID : 264330140125

Option 1 ID : 264330548879

Option 2 ID : 264330548880

Option 3 ID : 264330548881

Option 4 ID : 264330548882

Status : Answered

Chosen Option : 1

Q.8 दो कथन दिए गए हैं और दो निष्कर्ष I और II दिए गए हैं। कथनों को सत्य मानते हुए, चाहे वे सामान्यतः ज्ञात तथ्यों से अलग प्रतीत होते हों, निश्चय कीजिए कि कौन-सा निष्कर्ष तार्किक रूप से कथनों के अनुसार है।
कथन:

कुछ पॉपकॉर्न, चाइनीज़ हैं।

सभी पास्ता, चाइनीज़ हैं।

निष्कर्ष:

I. सभी चाइनीज़, पास्ता हैं।

II. कुछ पॉपकॉर्न, पास्ता हैं।

Ans

✗ 1. सिर्फ निष्कर्ष I कथनों के अनुसार है

✓ 2. निष्कर्ष I और II में से कोई भी कथनों के अनुसार नहीं है

✗ 3. दोनों निष्कर्ष I और II कथनों के अनुसार हैं

✗ 4. सिर्फ निष्कर्ष II कथनों के अनुसार है

Question Type : MCQ

Question ID : 264330140462

Option 1 ID : 264330550227

Option 2 ID : 264330550230

Option 3 ID : 264330550229

Option 4 ID : 264330550228

Status : Answered

Chosen Option : 2

Q.9 उस विकल्प को चुनिए जिसमें समुच्चय की संख्याएँ वही संबंध साझा करती हैं जो दिए गए समुच्चय में संख्याओं द्वारा साझा किया जाता है। (ध्यान दें: संख्याओं को उनके घटक अंकों में अलग-अलग किए बिना, पूर्ण संख्याओं पर संक्रियाएँ की जानी चाहिए। उदा. 13 - 13 पर संक्रियाएँ जैसे 13 को जोड़ना /घटाना /गुणा करना आदि किया जा सकता है। 13 को 1 और 3 में अलग-अलग करने और फिर 1 और 3 पर गणितीय संक्रियाएँ करने की अनुमति नहीं है)

(12, 22, 34)

(14, 15, 29)

Ans

✗ 1. (10, 20, 24)

✗ 2. (14, 15, 19)

✗ 3. (8, 9, 15)

✓ 4. (16, 17, 33)

Question Type : MCQ

Question ID : 264330139562

Option 1 ID : 264330546666

Option 2 ID : 264330546663

Option 3 ID : 264330546665

Option 4 ID : 264330546664

Status : Answered

Chosen Option : 4

Q.10 दी गई श्रृंखला में निम्नलिखित में से कौन-सा अक्षर-समूह प्रश्न चिन्ह (?) के स्थान पर आएगा?
DMF, FKG, HIH, JGI, LEJ, ?

- Ans
- ✓ 1. NCK
 - ✗ 2. NDJ
 - ✗ 3. KDN
 - ✗ 4. MDK

Question Type : MCQ
Question ID : 264330135346
Option 1 ID : 264330530292
Option 2 ID : 264330530294
Option 3 ID : 264330530291
Option 4 ID : 264330530293
Status : Answered
Chosen Option : 1

Q.11 U, V, W, X और Y एक वृत्ताकार मेज के चारों ओर केंद्र से बाहर की ओर मुख करके बैठे हैं। U, W के ठीक बाईं ओर बैठा है। X, V और Y के ठीक बीच में बैठा है। W और V एक-दूसरे के बगल में बैठे हैं। U के ठीक बाईं ओर कौन बैठा है?

- Ans
- ✗ 1. W
 - ✓ 2. Y
 - ✗ 3. X
 - ✗ 4. V

Question Type : MCQ
Question ID : 264330135354
Option 1 ID : 264330530324
Option 2 ID : 264330530326
Option 3 ID : 264330530325
Option 4 ID : 264330530323
Status : Answered
Chosen Option : 2

Q.12 उस विकल्प को चुनिए जो तीसरे शब्द से ठीक उसी तरह संबंधित है जिस तरह दूसरा शब्द पहले शब्द से संबंधित है।
अफ़ग़ानिस्तान : काबुल :: ऑस्ट्रेलिया : ?

- Ans
- ✗ 1. सिडनी
 - ✗ 2. मेलबर्न
 - ✗ 3. वेलिंग्टन
 - ✓ 4. कैनबरा

Question Type : MCQ
Question ID : 264330140115
Option 1 ID : 264330548840
Option 2 ID : 264330548841
Option 3 ID : 264330548839
Option 4 ID : 264330548842
Status : Answered
Chosen Option : 4

Q.13 दिए गए समीकरण को सही करने के लिए किन दो चिन्हों को आपस में बदला जाना चाहिए?
 $2 + 9 \times 18 + 7 - 4 = 1$

- Ans
- 1. \times और $+$
 - 2. $-$ और $+$
 - 3. $=$ और $-$
 - 4. $=$ और \times

Question Type : MCQ
Question ID : 264330140427
Option 1 ID : 264330550090
Option 2 ID : 264330550087
Option 3 ID : 264330550088
Option 4 ID : 264330550089
Status : Answered
Chosen Option : 2

Q.14 उस विकल्प आकृति को चुनिए जिसमें दी गई आकृति निहित है।(घूर्णन की अनुमति नहीं है)



Ans

- 1.
- 2.
- 3.
- 4.

Question Type : MCQ
Question ID : 264330140993
Option 1 ID : 264330552319
Option 2 ID : 264330552321
Option 3 ID : 264330552322
Option 4 ID : 264330552320
Status : Answered
Chosen Option : 1

Q.15 पाँच बैग C1, C2, C3, C4 और C5 के भारों की तुलना की गई है। C4 का भार C1 से अधिक और C2 से कम है। C5 का भार C3 से अधिक है। C2 का भार C3 से कम है। कितने बैगों (bags) का भार C2 से कम है?

- Ans
- 1. 1
 - 2. 4
 - 3. 2
 - 4. 3

Question Type : **MCQ**
Question ID : **264330140984**
Option 1 ID : **264330552284**
Option 2 ID : **264330552286**
Option 3 ID : **264330552283**
Option 4 ID : **264330552285**
Status : **Answered**
Chosen Option : **3**

Q.16 एक निश्चित कूट भाषा में, '231' का अर्थ 'Flower is Green' है, '307' का अर्थ 'A Green Tree' है और '781' का अर्थ 'Tree and flower' है। 'is' के लिए कूट जात कीजिए।

- Ans
- 1. 0
 - 2. 1
 - 3. 8
 - 4. 2

Question Type : **MCQ**
Question ID : **264330140098**
Option 1 ID : **264330548772**
Option 2 ID : **264330548773**
Option 3 ID : **264330548774**
Option 4 ID : **264330548771**
Status : **Answered**
Chosen Option : **4**

Q.17 दी गई श्रृंखला में निम्नलिखित में से कौन-सी संख्या प्रश्न चिन्ह (?) के स्थान पर आएगी?
81, 92, 101, 108, 113, ?

- Ans
- 1. 116
 - 2. 117
 - 3. 118
 - 4. 114

Question Type : **MCQ**
Question ID : **264330140463**
Option 1 ID : **264330550231**
Option 2 ID : **264330550232**
Option 3 ID : **264330550234**
Option 4 ID : **264330550233**
Status : **Answered**
Chosen Option : **1**

Q.18 आठ लड़के अनिल, कमल, राम, संजय, आकाश, विवेक, राहुल और रामू एक वृत्ताकार मेज के चारों ओर केंद्र की ओर मुख करके बैठे हैं (परंतु जरूरी नहीं कि वे इसी क्रम में बैठें हों)। विवेक, कमल के दाईं ओर से तीसरे स्थान पर है। कमल, संजय के दाईं ओर से दूसरे स्थान पर है। राम, अनिल के दाईं ओर से दूसरे स्थान पर है। अनिल, विवेक के दाईं ओर से दूसरे स्थान पर है। राहुल, आकाश के दाईं ओर से तीसरे स्थान पर है। अनिल के बाईं ओर से तीसरे स्थान पर कौन है?

- Ans
- 1. विवेक
 - 2. आकाश
 - 3. कमल
 - 4. रामू

Question Type : MCQ

Question ID : 264330139978

Option 1 ID : 264330548294

Option 2 ID : 264330548293

Option 3 ID : 264330548291

Option 4 ID : 264330548292

Status : Answered

Chosen Option : 4

Q.19 यदि एक दर्पण को रेखा AB पर रखा जाए, तो दी गई विकल्प आकृतियों में से कौन-सी आकृति प्रश्न आकृति का सही प्रतिबिम्ब होगी?



Ans

- 1.
- 2.
- 3.
- 4.

Question Type : MCQ

Question ID : 264330140071

Option 1 ID : 264330548666

Option 2 ID : 264330548664

Option 3 ID : 264330548663

Option 4 ID : 264330548665

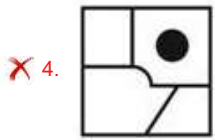
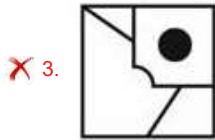
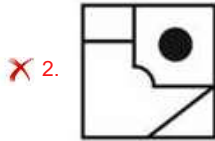
Status : Answered

Chosen Option : 3

Q.20 कौन-सी उत्तर आकृति प्रश्न आकृति में पैटर्न को पूरा करेगी?



Ans



Question Type : MCQ

Question ID : 264330140975

Option 1 ID : 264330552249

Option 2 ID : 264330552248

Option 3 ID : 264330552247

Option 4 ID : 264330552250

Status : Answered

Chosen Option : 1

Section : General Awareness

Q.1 कृषि कानून निरसन विधेयक, 2021 के तहत कितने कानूनों को निरस्त किया गया?

Ans ✗ 1. चार

✗ 2. दो

✗ 3. एक

✓ 4. तीन

Question Type : MCQ

Question ID : 264330140727

Option 1 ID : 264330551258

Option 2 ID : 264330551256

Option 3 ID : 264330551255

Option 4 ID : 264330551257

Status : Answered

Chosen Option : 4

Q.2 प्रसिद्ध फिल्म "श्री इडियट्स (3 Idiots)" उपन्यास "फाइव पॉइंट समवन (Five Point Someone)" पर आधारित है जो भारतीय लेखक _____ द्वारा लिखा गया है।

- Ans
- 1. नोवोनील चक्रवर्ती
 - 2. चेतन भगत
 - 3. दुर्जोय दत्ता
 - 4. खुशवंत सिंह

Question Type : MCQ
Question ID : 264330140334
Option 1 ID : 264330549716
Option 2 ID : 264330549717
Option 3 ID : 264330549715
Option 4 ID : 264330549718
Status : Answered
Chosen Option : 2

Q.3 निम्नलिखित में से कौन-सा त्योहार तेलुगू नववर्ष की शुरुआत का प्रतीक है?

- Ans
- 1. ओणम
 - 2. उगादि
 - 3. गुड़ी पड़वा
 - 4. पोंगल

Question Type : MCQ
Question ID : 264330140704
Option 1 ID : 264330551164
Option 2 ID : 264330551163
Option 3 ID : 264330551166
Option 4 ID : 264330551165
Status : Answered
Chosen Option : 4

Q.4 निम्नलिखित में से कौन-सा शासकीय अधिकारी राज्य सभा का पदेन सभापति (ex officio chairman) होता है?

- Ans
- 1. भारत के उपराष्ट्रपति
 - 2. भारत के मुख्य न्यायाधीश
 - 3. भारत के राष्ट्रपति
 - 4. भारत के प्रधानमंत्री

Question Type : MCQ
Question ID : 264330140388
Option 1 ID : 264330549932
Option 2 ID : 264330549934
Option 3 ID : 264330549931
Option 4 ID : 264330549933
Status : Answered
Chosen Option : 1

Q.5 "हम राष्ट्र को जगाने के लिए मर भी जाएंगे (We shall die to awaken the nation)" का नारा _____ द्वारा दिया गया था।

- Ans
- 1. बीर टिकेंद्रजीत सिंह (Bir Tikendrajit Singh)
 - 2. सूर्य सेन (Surya Sen)
 - 3. पिंगली वेंकैया (Pingali Venkayya)
 - 4. बाघा जतीन (Bagha Jatin)

Question Type : MCQ
Question ID : 264330140947
Option 1 ID : 264330552136
Option 2 ID : 264330552135
Option 3 ID : 264330552138
Option 4 ID : 264330552137
Status : Not Answered
Chosen Option : --

Q.6 सुपर बाउल, फुटबॉल का एक वार्षिक चैम्पियनशिप खेल _____ में आयोजित किया जाता है।

- Ans
- 1. कनाडा
 - 2. संयुक्त राज्य अमेरिका
 - 3. मेक्सिको
 - 4. पेरू

Question Type : MCQ
Question ID : 264330140724
Option 1 ID : 264330551244
Option 2 ID : 264330551243
Option 3 ID : 264330551245
Option 4 ID : 264330551246
Status : Answered
Chosen Option : 2

Q.7 यकृत ग्रंथि _____ सावित करती है, जो पित्ताशय नामक एक थैली में संग्रहित होता है।

- Ans
- 1. श्लेष्मल
 - 2. हाइड्रोक्लोरिक अम्ल
 - 3. एस्ट्रोजन
 - 4. पित्त रस

Question Type : MCQ
Question ID : 264330138984
Option 1 ID : 264330544546
Option 2 ID : 264330544545
Option 3 ID : 264330544543
Option 4 ID : 264330544544
Status : Answered
Chosen Option : 4

Q.8 निम्नलिखित में से कौन-सा ग्रह अन्य ग्रहों की तुलना में विपरीत दिशा में घूर्णन (rotate) करता है?

- Ans
- ✓ 1. शुक्र
 - ✗ 2. बुध
 - ✗ 3. शनि
 - ✗ 4. बृहस्पति

Question Type : MCQ

Question ID : 264330140939

Option 1 ID : 264330552105

Option 2 ID : 264330552104

Option 3 ID : 264330552106

Option 4 ID : 264330552103

Status : Answered

Chosen Option : 1

Q.9 किस प्रक्रिया के अंतर्गत जल-विलेय अकार्बनिक पोषक भूमि मृदासंस्तर में प्रविष्ट कर जाते हैं और अनुपलब्ध लवण के रूप में अवक्षेपित हो जाते हैं?

- Ans
- ✗ 1. खंडन (Fragmentation)
 - ✗ 2. अपघटन (Decomposition)
 - ✓ 3. निक्षालन (Leaching)
 - ✗ 4. ह्यूमस भवन (Humification)

Question Type : MCQ

Question ID : 264330140913

Option 1 ID : 264330552001

Option 2 ID : 264330552002

Option 3 ID : 264330551999

Option 4 ID : 264330552000

Status : Answered

Chosen Option : 3

Q.10 नवंबर 2022 तक, भारत के पड़ोसी देश चीन की राजभाषा क्या है ?

- Ans
- ✗ 1. सिंहली
 - ✗ 2. बर्मी
 - ✓ 3. मेंडरिन
 - ✗ 4. बंगाली

Question Type : MCQ

Question ID : 264330140763

Option 1 ID : 264330551399

Option 2 ID : 264330551400

Option 3 ID : 264330551401

Option 4 ID : 264330551402

Status : Answered

Chosen Option : 3

Q.11 उस्ताद अमजद अली खान निम्नलिखित में से किस वाद्ययंत्र के लिए जाने जाते हैं?

- Ans
- 1. शहनाई
 - 2. सरोद
 - 3. गिटार
 - 4. संतूर

Question Type : MCQ
Question ID : 264330140310
Option 1 ID : 264330549622
Option 2 ID : 264330549621
Option 3 ID : 264330549619
Option 4 ID : 264330549620
Status : Answered
Chosen Option : 2

Q.12 निम्नलिखित में से कौन-सा राज्य भारत में कोयले का उत्पादन नहीं करता है?

- Ans
- 1. छत्तीसगढ़
 - 2. उड़ीसा
 - 3. झारखंड
 - 4. गुजरात

Question Type : MCQ
Question ID : 264330140735
Option 1 ID : 264330551290
Option 2 ID : 264330551288
Option 3 ID : 264330551287
Option 4 ID : 264330551289
Status : Answered
Chosen Option : 4

Q.13 वर्ष 2019 में, भारत सरकार ने इटली में जन्मी कथकली नर्तकी, मिलिना साल्विनी (Milena Salvini) को निम्नलिखित में से किस पुरस्कार से सम्मानित किया था?

- Ans
- 1. पद्म श्री
 - 2. पद्म भूषण
 - 3. पद्म विभूषण
 - 4. भारत रत्न

Question Type : MCQ
Question ID : 264330140386
Option 1 ID : 264330549924
Option 2 ID : 264330549925
Option 3 ID : 264330549926
Option 4 ID : 264330549923
Status : Answered
Chosen Option : 1

Q.14 कच्छ का रण भारत के _____ क्षेत्र में पड़ता है।

- Ans
- 1. तटीय मैदानी
 - 2. पूर्वी घाट
 - 3. थार के रेगिस्तानी
 - 4. उत्तर मैदानी

Question Type : MCQ
Question ID : 264330140916
Option 1 ID : 264330552014
Option 2 ID : 264330552012
Option 3 ID : 264330552013
Option 4 ID : 264330552011
Status : Answered
Chosen Option : 1

Q.15 _____ ग्रामीण आजीविका मिशन की UMEED योजना केंद्र शासित प्रदेश में आर्थिक रूप से सक्षम होने की इच्छा रखने वाली ग्रामीण महिलाओं की महत्वाकांक्षाओं को सहायता प्रदान कर रही है।

- Ans
- 1. दमन और दीव
 - 2. अंडमान एवं निकोबार द्वीपसमूह
 - 3. लक्षद्वीप
 - 4. जम्मू और कश्मीर

Question Type : MCQ
Question ID : 264330140931
Option 1 ID : 264330552073
Option 2 ID : 264330552074
Option 3 ID : 264330552072
Option 4 ID : 264330552071
Status : Answered
Chosen Option : 4

Q.16 जनवरी 2022 में, RBI के पूर्व गवर्नर, उजित पटेल को निवेश कार्य के लिए _____ का उपाध्यक्ष नियुक्त किया गया है।

- Ans
- 1. एशियन इन्फ्रास्ट्रक्चर इन्वेस्टमेंट बैंक
 - 2. न्यू डेवलपमेंट बैंक
 - 3. अंतर्राष्ट्रीय मुद्रा कोष
 - 4. विश्व बैंक

Question Type : MCQ
Question ID : 264330139756
Option 1 ID : 264330547442
Option 2 ID : 264330547440
Option 3 ID : 264330547441
Option 4 ID : 264330547439
Status : Answered
Chosen Option : 1

Q.17 वह न्यूनतम दर जिसके नीचे बैंकों को धन ऋण पर देने की अनुमति नहीं है, (भारतीय रिजर्व बैंक द्वारा निर्दिष्ट कुछ मामलों को छोड़कर) _____ कहलाती है।

- Ans
- 1. उलट रेपो दर (reverse repo rate)
 - 2. आधार दर (base rate)
 - 3. रेपो दर (repo rate)
 - 4. कैश रेट (cash rate)

Question Type : MCQ
Question ID : 264330140366
Option 1 ID : 264330549845
Option 2 ID : 264330549843
Option 3 ID : 264330549844
Option 4 ID : 264330549846
Status : Answered
Chosen Option : 2

Q.18 एक आवेशित वस्तु द्वारा किसी दूसरी आवेशित अथवा अनावेशित वस्तु पर लगाया गया बल _____ कहलाता है।

- Ans
- 1. दाब बल
 - 2. घर्षण बल
 - 3. गुरुत्वाकर्षण बल
 - 4. स्थिरविद्युत बल

Question Type : MCQ
Question ID : 264330139882
Option 1 ID : 264330547910
Option 2 ID : 264330547909
Option 3 ID : 264330547908
Option 4 ID : 264330547907
Status : Answered
Chosen Option : 4

Q.19 1873 में "गुलामगिरी (Gulamgiri)" नामक किताब किसने लिखी थी?

- Ans
- 1. देबेन्द्रनाथ टैगोर
 - 2. ज्योतिबा फुले
 - 3. ईश्वरचंद्र विद्यासागर
 - 4. दयानंद सरस्वती

Question Type : MCQ
Question ID : 264330139746
Option 1 ID : 264330547402
Option 2 ID : 264330547399
Option 3 ID : 264330547401
Option 4 ID : 264330547400
Status : Answered
Chosen Option : 2

Q.20 अनंग पाल किस राजवंश के शासक थे?

- Ans
- 1. गुर्जर-प्रतिहार राजवंश
 - 2. राजपूत राजवंश
 - 3. पल्लव राजवंश
 - 4. खिलजी राजवंश

Question Type : MCQ
Question ID : 264330139720
Option 1 ID : 264330547296
Option 2 ID : 264330547297
Option 3 ID : 264330547298
Option 4 ID : 264330547295
Status : Answered
Chosen Option : 2

Q.21 बेरोजगारी दर ज्ञात करने का सूत्र _____ है।

- Ans
- 1. $(\text{बेरोजगार पुरुष श्रमिक} / \text{कुल श्रम बल}) \times 1000$
 - 2. $(\text{रोजगार प्राप्त श्रमिक} / \text{कुल श्रम बल}) \times 100$
 - 3. $(\text{रोजगार प्राप्त श्रमिक} / \text{पुरुष श्रम बल}) \times 100$
 - 4. $(\text{बेरोजगार श्रमिक} / \text{कुल श्रम बल}) \times 100$

Question Type : MCQ
Question ID : 264330140287
Option 1 ID : 264330549529
Option 2 ID : 264330549528
Option 3 ID : 264330549530
Option 4 ID : 264330549527
Status : Answered
Chosen Option : 4

Q.22 स्थापत्यकला की प्रोविडा (Provida) शैली किस साम्राज्य से संबंधित है?

- Ans
- 1. मौर्य साम्राज्य
 - 2. विजयनगर साम्राज्य
 - 3. बहमनी साम्राज्य
 - 4. गुप्त साम्राज्य

Question Type : MCQ
Question ID : 264330140296
Option 1 ID : 264330549564
Option 2 ID : 264330549563
Option 3 ID : 264330549566
Option 4 ID : 264330549565
Status : Answered
Chosen Option : 4

Q.23 वर्ल्ड गेम्स 2022, संयुक्त राज्य अमेरिका के _____ शहर में आयोजित किए गए थे।

- Ans
- 1. ऑस्टिन (Austin)
 - 2. बर्मिंघम (Birmingham)
 - 3. वाशिंगटन (Washington)
 - 4. न्यू ऑर्लेअंस (New Orleans)

Question Type : MCQ

Question ID : 264330140773

Option 1 ID : 264330551440

Option 2 ID : 264330551439

Option 3 ID : 264330551441

Option 4 ID : 264330551442

Status : Answered

Chosen Option : 1

Q.24 निम्नलिखित में से किस भारतीय नृत्य शैली का संबंध राजस्थान से है?

- Ans
- 1. भरतनाट्यम
 - 2. ओडिसी
 - 3. घूमर
 - 4. चरकुला

Question Type : MCQ

Question ID : 264330140753

Option 1 ID : 264330551361

Option 2 ID : 264330551359

Option 3 ID : 264330551362

Option 4 ID : 264330551360

Status : Answered

Chosen Option : 3

Q.25 मोहनजोदड़ो निम्नलिखित में से किस सभ्यता से संबंधित है?

- Ans
- 1. सिंधु घाटी सभ्यता
 - 2. माया (Maya) सभ्यता
 - 3. मेसोपोटामिया (Mesopotamian) की सभ्यता
 - 4. मिस्र की सभ्यता

Question Type : MCQ

Question ID : 264330140305

Option 1 ID : 264330549599

Option 2 ID : 264330549602

Option 3 ID : 264330549600

Option 4 ID : 264330549601

Status : Answered

Chosen Option : 1

Q.1 Identify the segment that contains a grammatical error. If there is no error, select 'No error'.

It's good to travel and / work, most beautiful than going / to the same office each day.

- Ans**
- 1. It's good to travel and
 - 2. to the same office each day.
 - 3. No error
 - 4. work, most beautiful than going

Question Type : **MCQ**
Question ID : **264330135742**
Option 1 ID : **264330531851**
Option 2 ID : **264330531853**
Option 3 ID : **264330531854**
Option 4 ID : **264330531852**
Status : **Answered**
Chosen Option : **4**

Q.2 Select the most appropriate synonym of the given word.

Wealthy

- Ans**
- 1. Affluent
 - 2. Lacking
 - 3. Poor
 - 4. Depressed

Question Type : **MCQ**
Question ID : **264330136151**
Option 1 ID : **264330533404**
Option 2 ID : **264330533405**
Option 3 ID : **264330533403**
Option 4 ID : **264330533406**
Status : **Answered**
Chosen Option : **1**

Q.3 Select the most appropriate meaning of the given idiom.

In fits and starts

- Ans**
- 1. Summary
 - 2. Be in difficulty
 - 3. Irregularly
 - 4. Everywhere

Question Type : **MCQ**
Question ID : **264330136763**
Option 1 ID : **264330535755**
Option 2 ID : **264330535756**
Option 3 ID : **264330535757**
Option 4 ID : **264330535758**
Status : **Answered**
Chosen Option : **3**

Q.4 Select the most appropriate option to substitute the bracketed segment in the given sentence. If there is no need to substitute it, select 'no substitution required'.

If the dog (is allow complete freedom), it can assume that any toy is acceptable for play.

- Ans**
- 1. allowed completely freedom
 - 2. No substitution required
 - 3. is allowed complete freedom
 - 4. are allowed complete free

Question Type : **MCQ**

Question ID : **264330136748**

Option 1 ID : **264330535700**

Option 2 ID : **264330535702**

Option 3 ID : **264330535699**

Option 4 ID : **264330535701**

Status : **Answered**

Chosen Option : **3**

Q.5 A sentence has been given with a blank to be filled with an appropriate option. Choose the correct alternative.

Social media is _____ to market products.

- Ans**
- 1. using
 - 2. uses
 - 3. use
 - 4. used

Question Type : **MCQ**

Question ID : **264330135236**

Option 1 ID : **264330529868**

Option 2 ID : **264330529867**

Option 3 ID : **264330529870**

Option 4 ID : **264330529869**

Status : **Answered**

Chosen Option : **4**

Q.6 Select the wrongly spelt word.

- Ans**
- 1. Pausity
 - 2. Philistine
 - 3. Phlegmatic
 - 4. Philanthropy

Question Type : **MCQ**

Question ID : **264330136558**

Option 1 ID : **264330534970**

Option 2 ID : **264330534968**

Option 3 ID : **264330534969**

Option 4 ID : **264330534967**

Status : **Answered**

Chosen Option : **2**

Q.7 Select the word segment that substitutes (replaces) the bracketed word segment correctly and completes the sentence meaningfully. Select the option 'no correction required' if the sentence is correct as given.

How (can a book such as) be written before I'd lived the incidents it described?

- Ans**
- 1. may such a book
 - 2. No correction required
 - 3. must so a book
 - 4. could such a book

Question Type : **MCQ**
Question ID : **264330136414**
Option 1 ID : **264330534420**
Option 2 ID : **264330534422**
Option 3 ID : **264330534421**
Option 4 ID : **264330534419**
Status : **Answered**
Chosen Option : **4**

Q.8 Select the most appropriate word for the given group of words.

A calculated move to gain an advantage

- Ans**
- 1. Gambit
 - 2. Grunt
 - 3. Bonsai
 - 4. Profit

Question Type : **MCQ**
Question ID : **264330136280**
Option 1 ID : **264330533902**
Option 2 ID : **264330533899**
Option 3 ID : **264330533901**
Option 4 ID : **264330533900**
Status : **Answered**
Chosen Option : **1**

Q.9 Select the most appropriate option to fill in the blank.

Slightly _____ bitter oranges to remove the red color which covers their skins.

- Ans**
- 1. grade
 - 2. great
 - 3. grate
 - 4. grace

Question Type : **MCQ**
Question ID : **264330141216**
Option 1 ID : **264330553199**
Option 2 ID : **264330553201**
Option 3 ID : **264330553200**
Option 4 ID : **264330553202**
Status : **Answered**
Chosen Option : **2**

Q.10 Select the most appropriate word for the given group of words.

Urging or requesting (someone) solemnly or earnestly to do something

- Ans
- 1. Adjure
 - 2. Armada
 - 3. Arrears
 - 4. Arena

Question Type : **MCQ**
Question ID : **264330136497**
Option 1 ID : **264330534732**
Option 2 ID : **264330534733**
Option 3 ID : **264330534731**
Option 4 ID : **264330534734**
Status : **Answered**
Chosen Option : **4**

Q.11 Choose the incorrectly spelt word.

- Ans
- 1. Shopping
 - 2. Wave
 - 3. Forciing
 - 4. Trust

Question Type : **MCQ**
Question ID : **264330135557**
Option 1 ID : **264330531129**
Option 2 ID : **264330531128**
Option 3 ID : **264330531127**
Option 4 ID : **264330531130**
Status : **Answered**
Chosen Option : **3**

Q.12 Choose the word that is opposite in meaning to the given word.

Plain

- Ans
- 1. Stupid
 - 2. Mean
 - 3. Fancy
 - 4. Crazy

Question Type : **MCQ**
Question ID : **264330135527**
Option 1 ID : **264330531014**
Option 2 ID : **264330531013**
Option 3 ID : **264330531012**
Option 4 ID : **264330531011**
Status : **Answered**
Chosen Option : **4**

Q.13 Identify the segment that contains a grammatical error. If there is no error, select 'No error'.

It would be neat and / cleanest, a home worthy of / spending our lives together.

- Ans**
- 1. cleanest, a home worthy of
 - 2. spending our lives together.
 - 3. It would be neat and
 - 4. No error

Question Type : **MCQ**
Question ID : **264330136266**
Option 1 ID : **264330533848**
Option 2 ID : **264330533849**
Option 3 ID : **264330533847**
Option 4 ID : **264330533850**
Status : **Answered**
Chosen Option : **1**

Q.14 Fill in the blank with the most appropriate option.

Can we reschedule the meeting? I _____.

- Ans**
- 1. give a headache
 - 2. get a headache
 - 3. take a headache
 - 4. have a headache

Question Type : **MCQ**
Question ID : **264330135739**
Option 1 ID : **264330531839**
Option 2 ID : **264330531840**
Option 3 ID : **264330531841**
Option 4 ID : **264330531842**
Status : **Answered**
Chosen Option : **4**

Q.15 Improve the underlined part of the sentence. Choose 'No improvement' as an answer if the sentence is grammatically correct.

We was installing wood flooring throughout our house.

- Ans**
- 1. No improvement
 - 2. installs wooden
 - 3. installed wood
 - 4. installs wood

Question Type : **MCQ**
Question ID : **264330135233**
Option 1 ID : **264330529858**
Option 2 ID : **264330529856**
Option 3 ID : **264330529855**
Option 4 ID : **264330529857**
Status : **Answered**
Chosen Option : **3**

Q.16 Identify the segment that contains a grammatical error. If there is no error, select 'No error'.
I had been angry the whole / evening, so she rubs brahmi / oil into my scalp to cool my brain.

- Ans**
- 1. oil into my scalp to cool my brain.
 - 2. No error
 - 3. I had been angry the whole
 - 4. evening, so she rubs brahmi

Question Type : **MCQ**
Question ID : **264330135743**
Option 1 ID : **264330531857**
Option 2 ID : **264330531858**
Option 3 ID : **264330531855**
Option 4 ID : **264330531856**
Status : **Answered**
Chosen Option : **4**

Q.17 Select the most appropriate option to fill in the blank.

What customs officials are asking for are not things that _____ their own personal titles.

- Ans**
- 1. advocate
 - 2. accede
 - 3. acerbic
 - 4. aggrandize

Question Type : **MCQ**
Question ID : **264330135670**
Option 1 ID : **264330531575**
Option 2 ID : **264330531577**
Option 3 ID : **264330531578**
Option 4 ID : **264330531576**
Status : **Answered**
Chosen Option : **4**

Q.18 Select the word from the options which is exactly opposite in meaning to the bracketed word given in the sentence below.

She relished our (arguments), most of which she won.

- Ans**
- 1. negotiations
 - 2. altercation
 - 3. agreements
 - 4. feud

Question Type : **MCQ**
Question ID : **264330135734**
Option 1 ID : **264330531822**
Option 2 ID : **264330531820**
Option 3 ID : **264330531821**
Option 4 ID : **264330531819**
Status : **Answered**
Chosen Option : **1**

Q.19 Select the most appropriate meaning of the bracketed idiom in the given sentence.

He is (a wolf in sheep's clothing), outwardly kind but inwardly vicious!

- Ans**
- 1. Verbally scold someone
 - 2. A dangerous person pretending harmless
 - 3. Angry today about something that occurred in the past
 - 4. A situation involving a narrow escape from danger

Question Type : **MCQ**
Question ID : **264330136556**
Option 1 ID : **264330534960**
Option 2 ID : **264330534959**
Option 3 ID : **264330534961**
Option 4 ID : **264330534962**
Status : **Answered**
Chosen Option : **2**

Q.20 Select the word from the options which is similar in meaning to the bracketed word given in the sentence below.

There is widespread (prejudice) against workers over 45.

- Ans**
- 1. Misfortune
 - 2. Concern
 - 3. Temperament
 - 4. Intolerance

Question Type : **MCQ**
Question ID : **264330135758**
Option 1 ID : **264330531913**
Option 2 ID : **264330531911**
Option 3 ID : **264330531914**
Option 4 ID : **264330531912**
Status : **Answered**
Chosen Option : **2**

Comprehension:

In the following passage some words have been deleted. Fill in the blanks with the help of the alternatives given. Select the most appropriate option for each number.

At the core of the (1) _____ lies the fierce (2) _____ between two branches of the Kuru dynasty, the Pandavas and the Kauravas. The lifelong struggle (3) _____ the cousins for the throne of Hastinapur culminates (4) _____ bloody battle of Kurukshetra, in which (5) _____ kings of that period participated and perished.

SubQuestion No : 21

Q.21 Select the most appropriate option to fill in the blank No. 1.

- Ans**
- 1. epic
 - 2. bright
 - 3. dull
 - 4. exercise

Question Type : **MCQ**
Question ID : **264330135724**
Option 1 ID : **264330531782**
Option 2 ID : **264330531779**
Option 3 ID : **264330531781**
Option 4 ID : **264330531780**
Status : **Answered**
Chosen Option : **1**

Comprehension:

In the following passage some words have been deleted. Fill in the blanks with the help of the alternatives given. Select the most appropriate option for each number.

At the core of the (1) _____ lies the fierce (2) _____ between two branches of the Kuru dynasty, the Pandavas and the Kauravas. The lifelong struggle (3) _____ the cousins for the throne of Hastinapur culminates (4) _____ bloody battle of Kurukshetra, in which (5) _____ kings of that period participated and perished.

SubQuestion No : 22

Q.22 Select the most appropriate option to fill in the blank No. 2.

- Ans**
- 1. hostile
 - 2. friendship
 - 3. rivalry
 - 4. commute

Question Type : **MCQ**

Question ID : **264330135725**

Option 1 ID : **264330531786**

Option 2 ID : **264330531783**

Option 3 ID : **264330531785**

Option 4 ID : **264330531784**

Status : **Answered**

Chosen Option : **1**

Comprehension:

In the following passage some words have been deleted. Fill in the blanks with the help of the alternatives given. Select the most appropriate option for each number.

At the core of the (1) _____ lies the fierce (2) _____ between two branches of the Kuru dynasty, the Pandavas and the Kauravas. The lifelong struggle (3) _____ the cousins for the throne of Hastinapur culminates (4) _____ bloody battle of Kurukshetra, in which (5) _____ kings of that period participated and perished.

SubQuestion No : 23

Q.23 Select the most appropriate option to fill in the blank No. 3.

- Ans**
- 1. inside
 - 2. along
 - 3. amongst
 - 4. between

Question Type : **MCQ**

Question ID : **264330135726**

Option 1 ID : **264330531789**

Option 2 ID : **264330531790**

Option 3 ID : **264330531787**

Option 4 ID : **264330531788**

Status : **Answered**

Chosen Option : **4**

Comprehension:

In the following passage some words have been deleted. Fill in the blanks with the help of the alternatives given. Select the most appropriate option for each number.

At the core of the (1) _____ lies the fierce (2) _____ between two branches of the Kuru dynasty, the Pandavas and the Kauravas. The lifelong struggle (3) _____ the cousins for the throne of Hastinapur culminates (4) _____ bloody battle of Kurukshetra, in which (5) _____ kings of that period participated and perished.

SubQuestion No : 24

Q.24 Select the most appropriate option to fill in the blank No. 4.

- Ans**
- 1. inside
 - 2. in the
 - 3. in to
 - 4. in that

Question Type : **MCQ**
Question ID : **264330135727**
Option 1 ID : **264330531794**
Option 2 ID : **264330531791**
Option 3 ID : **264330531793**
Option 4 ID : **264330531792**
Status : **Answered**
Chosen Option : **2**

Comprehension:

In the following passage some words have been deleted. Fill in the blanks with the help of the alternatives given. Select the most appropriate option for each number.

At the core of the (1) _____ lies the fierce (2) _____ between two branches of the Kuru dynasty, the Pandavas and the Kauravas. The lifelong struggle (3) _____ the cousins for the throne of Hastinapur culminates (4) _____ bloody battle of Kurukshetra, in which (5) _____ kings of that period participated and perished.

SubQuestion No : 25

Q.25 Select the most appropriate option to fill in the blank No. 5.

- Ans**
- 1. almost
 - 2. each
 - 3. total
 - 4. most

Question Type : **MCQ**
Question ID : **264330135728**
Option 1 ID : **264330531795**
Option 2 ID : **264330531797**
Option 3 ID : **264330531798**
Option 4 ID : **264330531796**
Status : **Answered**
Chosen Option : **1**

Multi Tasking Non Technical Staff and Havaladar CBIC and CBN Examination 2022

Roll Number	KD Job Updates
Candidate Name	KD Job Updates
Venue Name	iON Digital Zone iDZ Purnea
Exam Date	14/06/2023
Exam Time	9:00 AM - 10:30 AM
Subject	MTS Non Tech Havaladar CBIC and CBN Examination 2022

Section : Numerical and Mathematical Ability

Q.1 A, 10 km/hr की चाल से चलता है और उसके 20 घंटे बाद, B, 15 km/hr की चाल से उसके पीछे अपनी साइकिल पर चलना शुरू करता है। प्रारंभिक बिंदु से कितनी दूरी पर B, A से मिलेगा?

- Ans
- ✓ 1. 600 km
 - ✗ 2. 1000 km
 - ✗ 3. 800 km
 - ✗ 4. 700 km

Question Type : MCQ
Question ID : 264330139893
Option 1 ID : 264330547952
Option 2 ID : 264330547951
Option 3 ID : 264330547954
Option 4 ID : 264330547953
Status : Answered
Chosen Option : 3

Q.2 यदि 10 आदमी किसी कार्य को 10 दिन में कर सकते हैं, तो 2 आदमी उसी कार्य को कितने दिन में करेंगे?

- Ans
- ✗ 1. 75 दिन
 - ✗ 2. 25 दिन
 - ✓ 3. 50 दिन
 - ✗ 4. 60 दिन

Question Type : MCQ
Question ID : 264330140583
Option 1 ID : 264330550685
Option 2 ID : 264330550684
Option 3 ID : 264330550686
Option 4 ID : 264330550683
Status : Answered
Chosen Option : 3

Q.3 23 मेजों का मूल्य Rs. 52840 है। Rs. 1690880 में ऐसी कितनी मेजें खरीदी जा सकती हैं?

Ans 1. 736

2. 690

3. 590

4. 528

Question Type : MCQ

Question ID : 264330140831

Option 1 ID : 264330551673

Option 2 ID : 264330551671

Option 3 ID : 264330551674

Option 4 ID : 264330551672

Status : Answered

Chosen Option : 2

Q.4 जब किसी संख्या का 20 प्रतिशत 160 में जोड़ा जाता है, तो परिणाम वही संख्या होती है। उस संख्या का मान क्या है?

Ans 1. 240

2. 160

3. 150

4. 200

Question Type : MCQ

Question ID : 264330139021

Option 1 ID : 264330544694

Option 2 ID : 264330544692

Option 3 ID : 264330544691

Option 4 ID : 264330544693

Status : Answered

Chosen Option : 4

Q.5 25, 40 और 60 का महत्तम समापवर्तक क्या है?

Ans 1. 12

2. 8

3. 10

4. 5

Question Type : MCQ

Question ID : 264330140168

Option 1 ID : 264330549054

Option 2 ID : 264330549053

Option 3 ID : 264330549051

Option 4 ID : 264330549052

Status : Answered

Chosen Option : 4

Q.6 यदि क्रय मूल्य, विक्रय मूल्य का 40% है, तो लाभ प्रतिशत क्या है?

- Ans
- 1. 50%
 - 2. 200%
 - 3. 100%
 - 4. 150%

Question Type : MCQ

Question ID : 264330139043

Option 1 ID : 264330544780

Option 2 ID : 264330544781

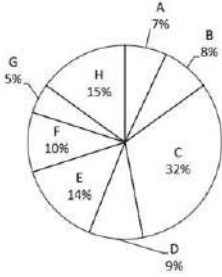
Option 3 ID : 264330544779

Option 4 ID : 264330544782

Status : Answered

Chosen Option : 4

Q.7 नीचे दिए गए वृत्त आलेख में 8 अलग-अलग कंपनियों द्वारा बेची गई बाइक की संख्या को दर्शाया गया है। इन सभी 8 अलग-अलग कंपनियों द्वारा बेची गई बाइक की कुल संख्या 15000 है। इनमें से किसी एक विशिष्ट कंपनी द्वारा बेची गई बाइक की संख्या को इन सभी 8 अलग-अलग कंपनियों द्वारा बेची गई बाइक की कुल संख्या के प्रतिशत के रूप में दर्शाया गया है।



निम्नलिखित में से कौन-सा कथन सही नहीं है?

- I. वृत्तखंड A, C और D द्वारा मिलकर बनाए गए केंद्रीय कोण का मान 170.8° है।
- II. वृत्तखंड B, E, F और H द्वारा मिलकर बनाए गए केंद्रीय कोण का मान 169.2° है।

- Ans
- 1. केवल II
 - 2. न तो I और न ही II
 - 3. I और II दोनों
 - 4. केवल I

Question Type : MCQ

Question ID : 264330140232

Option 1 ID : 264330549308

Option 2 ID : 264330549310

Option 3 ID : 264330549309

Option 4 ID : 264330549307

Status : Answered

Chosen Option : 2

Q.8 यदि किसी बेलन की त्रिज्या में 12 प्रतिशत की कमी कर दी जाए, तो उसकी ऊँचाई में कितने प्रतिशत की वृद्धि करनी होगी, ताकि बेलन का आयतन वही रहे?

- Ans
- 1. 34.27 प्रतिशत
 - 2. 21.78 प्रतिशत
 - 3. 42.56 प्रतिशत
 - 4. 29.13 प्रतिशत

Question Type : MCQ
Question ID : 264330140252
Option 1 ID : 264330549388
Option 2 ID : 264330549390
Option 3 ID : 264330549389
Option 4 ID : 264330549387
Status : Not Answered
Chosen Option : --

Q.9 एक आदमी एक निश्चित दूरी का आधा भाग 35 km/hr की चाल से तय करता है। वह शेष दूरी का 40 प्रतिशत 8 km/hr की चाल से तय करता है और शेष दूरी को 18 km/hr की चाल से तय करता है। पूरी यात्रा में उसकी औसत चाल क्या है?

- Ans
- 1. 840/47 km/hr
 - 2. 760/47 km/hr
 - 3. 920/47 km/hr
 - 4. 680/47 km/hr

Question Type : MCQ
Question ID : 264330139935
Option 1 ID : 264330548121
Option 2 ID : 264330548120
Option 3 ID : 264330548122
Option 4 ID : 264330548119
Status : Answered
Chosen Option : 2

Q.10 Rs.6000 की धनराशि को दो भागों में बाँटा जाता है। पहले भाग पर 10 प्रतिशत वार्षिक दर पर प्राप्त वार्षिक साधारण ब्याज, दूसरे भाग पर 15 प्रतिशत वार्षिक दर पर प्राप्त वार्षिक साधारण ब्याज के बराबर है। एक वर्ष के लिए प्रत्येक भाग पर कितना ब्याज है?

- Ans
- 1. Rs.420
 - 2. Rs.360
 - 3. Rs.330
 - 4. Rs.300

Question Type : MCQ
Question ID : 264330139962
Option 1 ID : 264330548230
Option 2 ID : 264330548227
Option 3 ID : 264330548228
Option 4 ID : 264330548229
Status : Answered
Chosen Option : 4

Q.11 55 लीटर के एक मिश्रण में, अम्ल का क्षार से अनुपात 7:4 है, मिश्रण का अनुपात 4:3 करने के लिए क्षार की कितनी मात्रा मिलानी होगी?

- Ans
- 1. 5.85 लीटर
 - 2. 6.25 लीटर
 - 3. 5.50 लीटर
 - 4. 4.45 लीटर

Question Type : MCQ
Question ID : 264330138728
Option 1 ID : 264330543521
Option 2 ID : 264330543522
Option 3 ID : 264330543520
Option 4 ID : 264330543519
Status : Answered
Chosen Option : 1

Q.12 नीचे दी गई तालिका में एक परीक्षा में पाँच छात्रों द्वारा प्राप्त किए गए अंकों को दर्शाया गया है।

छात्र	अंक
A	400
B	300
C	150
D	350
E	200

D द्वारा प्राप्त किए गए अंकों और E द्वारा प्राप्त किए गए अंकों का अनुपात क्या है?

- Ans
- 1. 5 : 3
 - 2. 7 : 4
 - 3. 7 : 3
 - 4. 5 : 4

Question Type : MCQ
Question ID : 264330140581
Option 1 ID : 264330550675
Option 2 ID : 264330550677
Option 3 ID : 264330550678
Option 4 ID : 264330550676
Status : Answered
Chosen Option : 2

Q.13 $13 \times 12 \div 26 - 5 \times 24 \div 10 + 4 \times 4 - 8$ का मान क्या है?

- Ans
- 1. 2
 - 2. -2
 - 3. 0
 - 4. -4

Question Type : MCQ
Question ID : 264330139604
Option 1 ID : 264330546831
Option 2 ID : 264330546833
Option 3 ID : 264330546832
Option 4 ID : 264330546834
Status : Answered
Chosen Option : 1

Q.14 $\frac{28}{21} \times \frac{96}{4} \div \frac{125}{5} \times \frac{42}{192} + \frac{297}{125} \times \frac{875}{3} \div \frac{99}{4} \times \frac{6}{25}$ का मान क्या है?

- Ans
- 1. $7/25$
 - 2. 11
 - 3. 7
 - 4. $9/25$

Question Type : MCQ

Question ID : 264330139645

Option 1 ID : 264330546996

Option 2 ID : 264330546995

Option 3 ID : 264330546997

Option 4 ID : 264330546998

Status : Answered

Chosen Option : 3

Q.15 एक वस्तु को Rs. 600 में खरीदा जाता है और Rs. 900 में बेचा जाता है। लाभ प्रतिशत ज्ञात कीजिए।

- Ans
- 1. 45%
 - 2. 40%
 - 3. 55%
 - 4. 50%

Question Type : MCQ

Question ID : 264330140782

Option 1 ID : 264330551477

Option 2 ID : 264330551476

Option 3 ID : 264330551478

Option 4 ID : 264330551475

Status : Answered

Chosen Option : 4

Q.16 राशि अकेले किसी कार्य को 10 घंटों में, गोपी अकेले 8 घंटों में और मंजू अकेले 12 घंटों में पूरा कर सकती है। यदि वे एक साथ मिलकर काम करें, तो इस कार्य को पूरा करने में उन्हें कितना समय लगेगा?

- Ans
- 1. $3\frac{9}{37}$ घंटे
 - 2. $3\frac{11}{37}$ घंटे
 - 3. $4\frac{3}{37}$ घंटे
 - 4. $4\frac{7}{37}$ घंटे

Question Type : MCQ

Question ID : 264330139051

Option 1 ID : 264330544811

Option 2 ID : 264330544813

Option 3 ID : 264330544814

Option 4 ID : 264330544812

Status : Answered

Chosen Option : 1

Q.17 यदि दो बेलनों के आयतनों का अनुपात 7 : 5 है और उनकी ऊँचाइयों का अनुपात 5 : 7 है, तो उनकी त्रिज्याओं का अनुपात क्या है?

- Ans
- 1. 4 : 5
 - 2. 5 : 9
 - 3. 7 : 5
 - 4. 3 : 4

Question Type : MCQ

Question ID : 264330140624

Option 1 ID : 264330550846

Option 2 ID : 264330550844

Option 3 ID : 264330550845

Option 4 ID : 264330550843

Status : Answered

Chosen Option : 3

Q.18 साधारण ब्याज की वह दर क्या है जिस पर कोई धनराशि 36 वर्षों में स्वयं की तीन गुनी हो जाती है?

- Ans
- 1. 5.55 प्रतिशत
 - 2. 7.28 प्रतिशत
 - 3. 6.28 प्रतिशत
 - 4. 6.86 प्रतिशत

Question Type : MCQ

Question ID : 264330140183

Option 1 ID : 264330549114

Option 2 ID : 264330549112

Option 3 ID : 264330549113

Option 4 ID : 264330549111

Status : Answered

Chosen Option : 3

Q.19 मनीष और पंकज की आय का अनुपात 13 : 7 है। यदि पंकज को मनीष से Rs. 6000 कम मिलते हैं, तो मनीष और पंकज की कुल आय कितनी है?

- Ans
- 1. Rs. 20000
 - 2. Rs. 22500
 - 3. Rs. 24000
 - 4. Rs. 25000

Question Type : MCQ

Question ID : 264330139939

Option 1 ID : 264330548136

Option 2 ID : 264330548137

Option 3 ID : 264330548135

Option 4 ID : 264330548138

Status : Answered

Chosen Option : 1

Q.20 एक घड़ी को अंकित मूल्य के 5/6 भाग पर बेचने पर 10 प्रतिशत की हानि होती है। घड़ी के अंकित मूल्य और क्रय मूल्य का अनुपात क्या होगा?

- Ans
- 1. 25 : 22
 - 2. 29 : 25
 - 3. 27 : 25
 - 4. 28 : 27

Question Type : MCQ

Question ID : 264330139943

Option 1 ID : 264330548153

Option 2 ID : 264330548154

Option 3 ID : 264330548152

Option 4 ID : 264330548151

Status : Answered

Chosen Option : 3

Section : Reasoning Ability and Problem Solving

Q.1 राजेश, रमेश, सुरेश, मुकेश और प्रीतेश पाँच मित्र हैं, जिन्होंने एक परीक्षा में अलग-अलग अंक प्राप्त किए हैं। राजेश और मुकेश के बीच दो मित्रों ने अंक प्राप्त किए हैं। रमेश ने सर्वाधिक अंक प्राप्त किए हैं। प्रीतेश ने सुरेश से अधिक अंक प्राप्त किए हैं। चौथे स्थान पर सर्वाधिक अंक किसने प्राप्त किए हैं?

- Ans
- 1. मुकेश
 - 2. रमेश
 - 3. सुरेश
 - 4. राजेश

Question Type : MCQ

Question ID : 264330140460

Option 1 ID : 264330550222

Option 2 ID : 264330550220

Option 3 ID : 264330550221

Option 4 ID : 264330550219

Status : Answered

Chosen Option : 3

Q.2 उस विकल्प को चुनिए जो तीसरे शब्द से ठीक उसी प्रकार संबंधित है जिस प्रकार दूसरा शब्द पहले शब्द से संबंधित है।

मुंबई : महाराष्ट्र :: चेन्नई : ?

- Ans
- 1. राजस्थान
 - 2. महाराष्ट्र
 - 3. हरियाणा
 - 4. तमिलनाडु

Question Type : MCQ

Question ID : 264330140014

Option 1 ID : 264330548435

Option 2 ID : 264330548436

Option 3 ID : 264330548437

Option 4 ID : 264330548438

Status : Answered

Chosen Option : 4

Q.3 निम्नलिखित प्रश्न में कुछ कथन दिए गए हैं और उन कथनों के आधार पर कुछ निष्कर्ष दिए गए हैं। आपको मानना है कि दिए गए कथन सत्य हैं चाहे वे समान्यतः जात तथ्यों से अलग प्रतीत होते हों। सभी निष्कर्षों को पढ़िए और फिर निश्चय कीजिए कि दिए गए निष्कर्षों में से कौनसा निष्कर्ष तार्किक रूप से दिए गए कथनों के अनुसार है।

कथन:

I. सभी लाल, पक्षी हैं।

II. सभी पक्षी, कुत्ते हैं।

निष्कर्ष:

I. कुछ पक्षी, कुत्ते हैं।

II. कुछ कुत्ते, लाल नहीं हैं।

Ans

1. कोई निष्कर्ष कथनों के अनुसार नहीं है
2. केवल निष्कर्ष II कथनों के अनुसार है
3. केवल निष्कर्ष I कथनों के अनुसार है
4. दोनों निष्कर्ष I और II कथनों के अनुसार हैं

Question Type : MCQ

Question ID : 264330139577

Option 1 ID : 264330546726

Option 2 ID : 264330546724

Option 3 ID : 264330546723

Option 4 ID : 264330546725

Status : Answered

Chosen Option : 3

Q.4 एक निश्चित कूट भाषा में, 'BEARD' को '30597' लिखा जाता है, 'BOWEL' को '17832' लिखा जाता है, 'AWARD' को '05209' लिखा जाता है। उस कूट भाषा में 'O' को कैसे लिखा जाएगा?

Ans

1. 2
2. 8
3. 3
4. 7

Question Type : MCQ

Question ID : 264330140960

Option 1 ID : 264330552190

Option 2 ID : 264330552188

Option 3 ID : 264330552189

Option 4 ID : 264330552187

Status : Answered

Chosen Option : 3

Q.5 दिए गए समीकरण को सही करने के लिए किन दो चिन्हों को आपस में बदला जाना चाहिए?

$$5 \div 4 \times 8 = 7 - 3$$

- Ans
- 1. \div और $=$
 - 2. \div और $-$
 - 3. $=$ और $-$
 - 4. \times और $-$

Question Type : MCQ

Question ID : 264330140407

Option 1 ID : 264330550010

Option 2 ID : 264330550008

Option 3 ID : 264330550009

Option 4 ID : 264330550007

Status : Answered

Chosen Option : 3

Q.6 उस समुच्चय को चुनिए जिसमें संख्याएँ ठीक उसी प्रकार संबंधित हैं जिस प्रकार निम्नलिखित समुच्चयों की संख्याएँ संबंधित हैं। (ध्यान दें: संख्याओं को उनके घटक अंकों में अलग-अलग किए बिना, पूर्ण संख्याओं पर संक्रियाएँ की जानी चाहिए। उदा. 13 - 13 पर संक्रियाएँ जैसे 13 को जोड़ना/घटाना/गुणा करना आदि किया जा सकता है। 13 को 1 और 3 में अलग-अलग करने की और फिर 1 और 3 पर गणितीय संक्रियाएँ करने की अनुमति नहीं है)

(19, 37, 72)

(15, 29, 56)

- Ans
- 1. (18, 35, 69)
 - 2. (16, 30, 62)
 - 3. (12, 25, 50)
 - 4. (11, 21, 40)

Question Type : MCQ

Question ID : 264330140047

Option 1 ID : 264330548568

Option 2 ID : 264330548567

Option 3 ID : 264330548570

Option 4 ID : 264330548569

Status : Answered

Chosen Option : 4

Q.7 A, N, E, H और S एक बेंच पर उत्तर की ओर मुख करके बैठे हैं। A, S के ठीक दाईं ओर बैठा है और S किसी एक कोने पर बैठा है। E, H के दाईं ओर बैठा है, और N के बाईं ओर बैठा है। H के ठीक बाईं ओर कौन बैठा है?

- Ans
- 1. A
 - 2. E
 - 3. S
 - 4. N

Question Type : MCQ

Question ID : 264330140140

Option 1 ID : 264330548939

Option 2 ID : 264330548940

Option 3 ID : 264330548942

Option 4 ID : 264330548941

Status : Answered

Chosen Option : 1

Q.8 दी गई श्रृंखला में निम्नलिखित में से कौन-सी संख्या प्रश्न चिन्ह (?) के स्थान पर आएगी?
27, 31, 35, 39, 43, 47, ?

- Ans
- 1. 59
 - 2. 50
 - 3. 51
 - 4. 46

Question Type : MCQ

Question ID : 264330138779

Option 1 ID : 264330543725

Option 2 ID : 264330543726

Option 3 ID : 264330543724

Option 4 ID : 264330543723

Status : Answered

Chosen Option : 3

Q.9 यदि A का अर्थ 'जोड़', B का अर्थ 'गुणा', C का अर्थ 'घटाव' और D का अर्थ 'भाग' हो, तो निम्नलिखित समीकरण का मान क्या होगा?
11 C 5 A (9 D 3) B 2 = ?

- Ans
- 1. 12
 - 2. 10
 - 3. 7
 - 4. 9

Question Type : MCQ

Question ID : 264330138783

Option 1 ID : 264330543741

Option 2 ID : 264330543739

Option 3 ID : 264330543740

Option 4 ID : 264330543742

Status : Answered

Chosen Option : 1

Q.10 उस विकल्प को चुनिए जो तीसरे शब्द से ठीक उसी प्रकार संबंधित है जिस प्रकार दूसरा शब्द पहले शब्द से संबंधित है।
तर्कसंगत : अतार्किक :: अल्प : ?

- Ans
- 1. कम
 - 2. सिर हिलाना
 - 3. गतिमान
 - 4. प्रचुर

Question Type : MCQ

Question ID : 264330141201

Option 1 ID : 264330553139

Option 2 ID : 264330553140

Option 3 ID : 264330553142

Option 4 ID : 264330553141

Status : Answered

Chosen Option : 4

Q.11 दी गई आकृति के उस सही दर्पण प्रतिबिंब को चुनिए, जो नीचे दर्शाए गए अनुसार दर्पण को MN पर रखने पर बनेगा।

2 4 6 9 8 7

M
N

Ans

✗ 1. 5 4 9 8 8 1

✗ 2. 7 8 6 9 4 2

✗ 3. 7 8 6 8 4 2

✓ 4. 7 8 9 8 4 2

Question Type : MCQ

Question ID : 264330140131

Option 1 ID : 264330548906

Option 2 ID : 264330548903

Option 3 ID : 264330548904

Option 4 ID : 264330548905

Status : Answered

Chosen Option : 4

Q.12 निम्नलिखित प्रश्न में, दी गई श्रृंखला में लुप्त संख्या को चुनिए।

1, 3, 9, 27, 81, ?

Ans

✗ 1. 313

✗ 2. 283

✓ 3. 243

✗ 4. 343

Question Type : MCQ

Question ID : 264330139982

Option 1 ID : 264330548307

Option 2 ID : 264330548309

Option 3 ID : 264330548308

Option 4 ID : 264330548310

Status : Answered

Chosen Option : 3

Q.13 एक निश्चित कूट भाषा में, 'DRINK' को 'ETLRP' लिखा जाता है। उस कूट भाषा में 'ABOVE' को कैसे लिखा जाएगा?

Ans

✗ 1. BDRYJ

✓ 2. BDRZJ

✗ 3. BRDXJ

✗ 4. BDRJX

Question Type : MCQ

Question ID : 264330135352

Option 1 ID : 264330530318

Option 2 ID : 264330530317

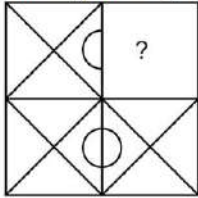
Option 3 ID : 264330530315

Option 4 ID : 264330530316

Status : Answered

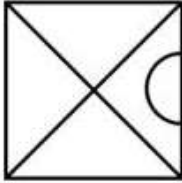
Chosen Option : 2

Q.14 उस विकल्प आकृति को चुनिए जो नीचे दी गई आकृति में पैटर्न को पूरा करने के लिए प्रश्न चिन्ह (?) के स्थान पर आएगी। (घूर्णन की अनुमति नहीं है)।

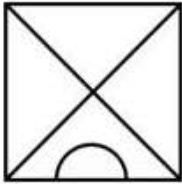


Ans

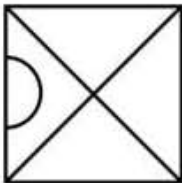
✗ 1.



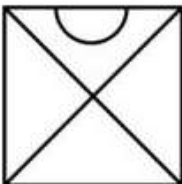
✗ 2.



✓ 3.



✗ 4.



Question Type : **MCQ**

Question ID : **264330140411**

Option 1 ID : **264330550023**

Option 2 ID : **264330550024**

Option 3 ID : **264330550025**

Option 4 ID : **264330550026**

Status : **Answered**

Chosen Option : **3**

Q.15 निम्नलिखित प्रश्न में कुछ कथन दिए गए हैं और उन कथनों के आधार पर कुछ निष्कर्ष दिए गए हैं। आपको मानना है कि दिए गए कथन सत्य हैं चाहे वे समान्यतः जात तथ्यों से अलग प्रतीत होते हों। सभी निष्कर्षों को पढ़िए और फिर निश्चय कीजिए कि दिए गए निष्कर्षों में से कौन-सा निष्कर्ष तार्किक रूप से दिए गए कथनों के अनुसार है।

कथन:

- I. कुछ T, M हैं।
- II. कोई T, Y नहीं है।

निष्कर्ष:

- I. कुछ M, Y नहीं हैं।
- II. कुछ M, T हैं।
- III. सभी M, Y हैं।

Ans

- 1. दोनों निष्कर्ष I और III कथनों के अनुसार हैं
- 2. कोई भी निष्कर्ष कथनों के अनुसार नहीं है
- 3. दोनों निष्कर्ष II और III कथनों के अनुसार हैं
- 4. दोनों निष्कर्ष I और II कथनों के अनुसार हैं

Question Type : **MCQ**

Question ID : **264330139538**

Option 1 ID : **264330546567**

Option 2 ID : **264330546570**

Option 3 ID : **264330546568**

Option 4 ID : **264330546569**

Status : **Answered**

Chosen Option : **4**

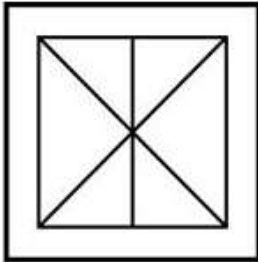
Q.16 उस विकल्प आकृति को चुनिए जिसमें दी गई आकृति (X) उसके भाग के रूप में निहित है (घूर्णन की अनुमति नहीं है)।



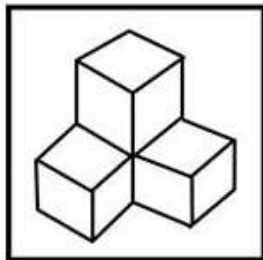
X

Ans

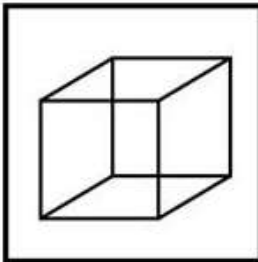
✗ 1.



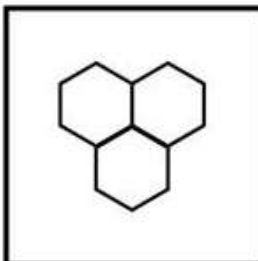
✓ 2.



✗ 3.



✗ 4.



Question Type : MCQ

Question ID : 264330140150

Option 1 ID : 264330548982

Option 2 ID : 264330548980

Option 3 ID : 264330548981

Option 4 ID : 264330548979

Status : Answered

Chosen Option : 2

Q.17 उस विकल्प को चुनिए जो तीसरी संख्या से ठीक उसी प्रकार संबंधित है जिस प्रकार दूसरी संख्या पहली संख्या से संबंधित है।

42 : 56 :: 24 : ?

Ans 1. 16

2. 32

3. 48

4. 40

Question Type : MCQ

Question ID : 264330140086

Option 1 ID : 264330548726

Option 2 ID : 264330548724

Option 3 ID : 264330548725

Option 4 ID : 264330548723

Status : Answered

Chosen Option : 2

Q.18 आठ मित्र राहुल, राम, रमेश, सोहन, साहिल, अनिल, सोनू और मोनू एक वृत्ताकार मेज के चारों ओर केंद्र की ओर मुख करके बैठे हैं (परंतु जरूरी नहीं कि वे इसी क्रम में बैठें हों)। मोनू, साहिल के ठीक दाईं ओर है। सोनू, साहिल के बाईं ओर से तीसरे स्थान पर है। राम, अनिल के दाईं ओर से तीसरे स्थान पर है। सोहन, मोनू के दाईं ओर से दूसरे स्थान पर है। मोनू के दाईं ओर से चौथे स्थान पर कौन है?

Ans 1. साहिल

2. राम

3. राहुल

4. सोनू

Question Type : MCQ

Question ID : 264330140059

Option 1 ID : 264330548618

Option 2 ID : 264330548616

Option 3 ID : 264330548617

Option 4 ID : 264330548615

Status : Answered

Chosen Option : 4

Q.19 दी गई श्रृंखला में निम्नलिखित में से कौन-सा अक्षर-समूह प्रश्न चिन्ह (?) के स्थान पर आएगा?

VC, WD, XE, YF, ZG, AH, ?

Ans 1. BI

2. IB

3. ID

4. BJ

Question Type : MCQ

Question ID : 264330140392

Option 1 ID : 264330549947

Option 2 ID : 264330549948

Option 3 ID : 264330549950

Option 4 ID : 264330549949

Status : Answered

Chosen Option : 1

Q.20 एक निश्चित कूट भाषा में, 'BROWN' को 'CSPXO' लिखा जाता है और 'CHAIR' को 'DIBJS' लिखा जाता है। उस कूट भाषा में 'COACH' को कैसे लिखा जाएगा?

- Ans
- 1. DPBDJ
 - 2. DPBDI
 - 3. DPBDK
 - 4. DPCDJ

Question Type : MCQ

Question ID : 264330140436

Option 1 ID : 264330550124

Option 2 ID : 264330550123

Option 3 ID : 264330550126

Option 4 ID : 264330550125

Status : Answered

Chosen Option : 1

Section : General Awareness

Q.1 किसी पूँजीगत वस्तु की टूट-फूट के लिए वार्षिक भत्ता _____ कहलाता है।

- Ans
- 1. मूल्यहास
 - 2. अवमूल्यन
 - 3. सकल निवेश
 - 4. विनिवेश

Question Type : MCQ

Question ID : 264330139658

Option 1 ID : 264330547048

Option 2 ID : 264330547047

Option 3 ID : 264330547049

Option 4 ID : 264330547050

Status : Answered

Chosen Option : 2

Q.2 भारत में अहोम साम्राज्य _____ में स्थित था।

- Ans
- 1. विंध्य
 - 2. तटीय उड़ीसा
 - 3. छोटा नागपुर के पठार
 - 4. ब्रह्मपुत्र घाटी

Question Type : MCQ

Question ID : 264330139695

Option 1 ID : 264330547196

Option 2 ID : 264330547198

Option 3 ID : 264330547195

Option 4 ID : 264330547197

Status : Answered

Chosen Option : 4

Q.3 दिवाली उस दिन का प्रतीक है जब भगवान राम, राजा रावण को पराजित कर _____ वर्षों के वनवास के बाद अयोध्या लौटे थे।

- Ans 1. 14
 2. 12
 3. 11
 4. 7

Question Type : MCQ
Question ID : 264330139724
Option 1 ID : 264330547314
Option 2 ID : 264330547313
Option 3 ID : 264330547312
Option 4 ID : 264330547311
Status : Answered
Chosen Option : 1

Q.4 चंद्रमा लगभग _____ दिनों में पृथ्वी का चक्कर लगाता है।

- Ans 1. 25
 2. 21
 3. 23
 4. 27

Question Type : MCQ
Question ID : 264330138989
Option 1 ID : 264330544565
Option 2 ID : 264330544563
Option 3 ID : 264330544564
Option 4 ID : 264330544566
Status : Answered
Chosen Option : 4

Q.5 मणिपुरी शास्त्रीय नृत्य के लिए किस प्रसिद्ध महिला को पद्म श्री पुरस्कार से सम्मानित किया गया?

- Ans 1. कलाबती देवी (Kalabati Devi)
 2. देवयानी चालिया (Devyani Chalia)
 3. एलम इंदिरा देवी (Elam Endira Devi)
 4. चारु माथुर (Charu Mathur)

Question Type : MCQ
Question ID : 264330140695
Option 1 ID : 264330551128
Option 2 ID : 264330551129
Option 3 ID : 264330551127
Option 4 ID : 264330551130
Status : Answered
Chosen Option : 4

Q.6 विज्ञान की आवर्त सारणी में "Mn" किस रासायनिक तत्व का प्रतीक है?

- Ans
- ✓ 1. मैंगनीज़ (Manganese)
 - ✗ 2. मैग्नीशियम (Magnesium)
 - ✗ 3. मेण्डेलेवियम (Mendelevium)
 - ✗ 4. मोलिब्डेनम (Molybdenum)

Question Type : MCQ
Question ID : 264330140706
Option 1 ID : 264330551174
Option 2 ID : 264330551173
Option 3 ID : 264330551172
Option 4 ID : 264330551171
Status : Answered
Chosen Option : 1

Q.7 अर्चना भारत में लोकसभा चुनाव लड़ना चाहती हैं। वह अधिकतम कितने निर्वाचन क्षेत्रों से चुनाव लड़ सकती है?

- Ans
- ✗ 1. एक
 - ✗ 2. तीन
 - ✗ 3. चार
 - ✓ 4. दो

Question Type : MCQ
Question ID : 264330140722
Option 1 ID : 264330551235
Option 2 ID : 264330551237
Option 3 ID : 264330551238
Option 4 ID : 264330551236
Status : Answered
Chosen Option : 4

Q.8 राज्य के नीति निर्देशक सिद्धांत भारतीय संविधान के किस भाग के अंतर्गत आते हैं?

- Ans
- ✓ 1. भाग IV
 - ✗ 2. भाग III
 - ✗ 3. भाग II
 - ✗ 4. भाग I

Question Type : MCQ
Question ID : 264330140312
Option 1 ID : 264330549628
Option 2 ID : 264330549630
Option 3 ID : 264330549627
Option 4 ID : 264330549629
Status : Answered
Chosen Option : 1

Q.9 आगरा के एक बैंकर शिव दयाल साहब ने _____ में राधा स्वामी सत्संग (Radha Soami Satsang) की स्थापना की थी।

- Ans
- 1. 1875
 - 2. 1842
 - 3. 1861
 - 4. 1880

Question Type : MCQ
Question ID : 264330141062
Option 1 ID : 264330552597
Option 2 ID : 264330552595
Option 3 ID : 264330552596
Option 4 ID : 264330552598
Status : Not Answered
Chosen Option : --

Q.10 निम्नलिखित में से कौन-सा पेशा मौसमी बेरोज़गारी का एक प्रकार है?

- Ans
- 1. किसान
 - 2. सूचना प्रौद्योगिकी पेशेवर (Information Technology professional)
 - 3. चिकित्सक
 - 4. लेखाकार (Accountants)

Question Type : MCQ
Question ID : 264330140663
Option 1 ID : 264330551001
Option 2 ID : 264330551000
Option 3 ID : 264330550999
Option 4 ID : 264330551002
Status : Answered
Chosen Option : 1

Q.11 किस देश ने क्रिकेट महिला एशिया कप 2022 जीता?

- Ans
- 1. श्रीलंका
 - 2. बांग्लादेश
 - 3. भारत
 - 4. पाकिस्तान

Question Type : MCQ
Question ID : 264330140698
Option 1 ID : 264330551139
Option 2 ID : 264330551140
Option 3 ID : 264330551141
Option 4 ID : 264330551142
Status : Answered
Chosen Option : 3

Q.12 भारत की 2011 की जनगणना के अनुसार, भारत के किस राज्य का लिंगानुपात सबसे कम है?

- Ans
- ✓ 1. हरियाणा
 - ✗ 2. बिहार
 - ✗ 3. झारखंड
 - ✗ 4. पंजाब

Question Type : MCQ

Question ID : 264330140687

Option 1 ID : 264330551097

Option 2 ID : 264330551096

Option 3 ID : 264330551095

Option 4 ID : 264330551098

Status : Answered

Chosen Option : 1

Q.13 नाहिद सिद्दीकी को अक्टूबर 2017 में मिलापफेस्ट के लाइफटाइम अचीवमेंट अवार्ड (Milapfest's Lifetime Achievement Award) से सम्मानित किया गया। वह किस नृत्य शैली के लिए जानी जाती हैं?

- Ans
- ✓ 1. कथक
 - ✗ 2. ओडिसी
 - ✗ 3. कुचिपुड़ी
 - ✗ 4. सत्त्रिया नृत्य

Question Type : MCQ

Question ID : 264330139705

Option 1 ID : 264330547237

Option 2 ID : 264330547235

Option 3 ID : 264330547236

Option 4 ID : 264330547238

Status : Answered

Chosen Option : 1

Q.14 भारतीय संविधान का निम्नलिखित में से कौन-सा अनुच्छेद "राष्ट्रीय अनुसूचित जाति आयोग" का प्रावधान करता है?

- Ans
- ✗ 1. अनुच्छेद 344
 - ✓ 2. अनुच्छेद 338
 - ✗ 3. अनुच्छेद 337
 - ✗ 4. अनुच्छेद 343

Question Type : MCQ

Question ID : 264330139877

Option 1 ID : 264330547890

Option 2 ID : 264330547888

Option 3 ID : 264330547887

Option 4 ID : 264330547889

Status : Answered

Chosen Option : 2

Q.15 गुरु बिपिन सिंह का संबंध भारत की _____ नृत्य शैली से है।

- Ans
- 1. कथक
 - 2. कालबेलिया
 - 3. मणिपुरी
 - 4. बचाता

Question Type : MCQ
Question ID : 264330140703
Option 1 ID : 264330551160
Option 2 ID : 264330551161
Option 3 ID : 264330551159
Option 4 ID : 264330551162
Status : Answered
Chosen Option : 3

Q.16 टोक्यो ओलंपिक 2020 (2021 में खेले गए) में भारत ने कितने रजत पदक जीते हैं?

- Ans
- 1. 1
 - 2. 4
 - 3. 2
 - 4. 3

Question Type : MCQ
Question ID : 264330139652
Option 1 ID : 264330547023
Option 2 ID : 264330547026
Option 3 ID : 264330547024
Option 4 ID : 264330547025
Status : Answered
Chosen Option : 4

Q.17 लोमस ऋषि (Lomas Rishi) गुफाएँ निम्नलिखित में से किस पहाड़ी पर स्थित हैं?

- Ans
- 1. सतपुडा पर्वतमाला
 - 2. अरावली पर्वतमाला
 - 3. बराबर पहाड़ियाँ
 - 4. विंध्याचल पर्वतमाला

Question Type : MCQ
Question ID : 264330139750
Option 1 ID : 264330547417
Option 2 ID : 264330547416
Option 3 ID : 264330547415
Option 4 ID : 264330547418
Status : Answered
Chosen Option : 3

Q.18 रवींद्रनाथ टैगोर ने _____ में शान्तिनिकेतन संस्थान शुरू किया।

- Ans
- 1. 1899
 - 2. 1901
 - 3. 1903
 - 4. 1905

Question Type : MCQ
Question ID : 264330139721
Option 1 ID : 264330547299
Option 2 ID : 264330547300
Option 3 ID : 264330547301
Option 4 ID : 264330547302
Status : Answered
Chosen Option : 2

Q.19 चूना पत्थर _____ का एक प्रकार है।

- Ans
- 1. कायांतरित शैल
 - 2. ज्वालामुखीय शैल
 - 3. अवसादी शैल
 - 4. आग्नेय शैल

Question Type : MCQ
Question ID : 264330140300
Option 1 ID : 264330549581
Option 2 ID : 264330549582
Option 3 ID : 264330549580
Option 4 ID : 264330549579
Status : Answered
Chosen Option : 3

Q.20 भारतीय संविधान का अनुच्छेद 51A _____ का प्रावधान करता है।

- Ans
- 1. मौलिक कर्तव्यों
 - 2. संघीय कार्यपालिका
 - 3. मौलिक अधिकारों
 - 4. राज्य के नीति निर्देशक तत्वों

Question Type : MCQ
Question ID : 264330138958
Option 1 ID : 264330544440
Option 2 ID : 264330544442
Option 3 ID : 264330544439
Option 4 ID : 264330544441
Status : Answered
Chosen Option : 4

Q.21 किस राजा को उसके सिक्कों पर वीणा बजाते हुए दिखाया गया है?

- Ans
- 1. चंद्रगुप्त मौर्य
 - 2. समुद्रगुप्त
 - 3. चंद्रगुप्त प्रथम
 - 4. अशोक

Question Type : MCQ

Question ID : 264330139887

Option 1 ID : 264330547930

Option 2 ID : 264330547928

Option 3 ID : 264330547929

Option 4 ID : 264330547927

Status : Answered

Chosen Option : 2

Q.22 इंदौर घराना भारतीय शास्त्रीय संगीत के प्रमुख मुखर घरानों में से एक है। इसकी स्थापना _____ ने की थी।

- Ans
- 1. दोराइस्वामी वी. आयंगर
 - 2. डॉ लक्ष्मीनारायण सुब्रमण्यम
 - 3. उस्ताद अमीर खान
 - 4. उस्ताद बुंदू खान

Question Type : MCQ

Question ID : 264330139729

Option 1 ID : 264330547332

Option 2 ID : 264330547334

Option 3 ID : 264330547333

Option 4 ID : 264330547331

Status : Not Answered

Chosen Option : --

Q.23 निम्नलिखित में से कौन-सा "जरायुज" जंतु का एक उदाहरण नहीं है?

- Ans
- 1. बिल्ली
 - 2. पक्षी
 - 3. गाय
 - 4. कुत्ता

Question Type : MCQ

Question ID : 264330139712

Option 1 ID : 264330547263

Option 2 ID : 264330547266

Option 3 ID : 264330547265

Option 4 ID : 264330547264

Status : Answered

Chosen Option : 2

Q.24 ऐतिहासिक शेर-शाह सूरी मार्ग _____ के बीच से होकर गुजरता है।

- Ans
- ✓ 1. दिल्ली और अमृतसर
 - ✗ 2. लखनऊ और कोलकाता
 - ✗ 3. कानपुर और कन्याकुमारी
 - ✗ 4. दिल्ली और मनाली

Question Type : MCQ
Question ID : 264330140915
Option 1 ID : 264330552007
Option 2 ID : 264330552008
Option 3 ID : 264330552010
Option 4 ID : 264330552009
Status : Answered
Chosen Option : 1

Q.25 कुछ विशेष परिवर्तनों के साथ टैडपोल का वयस्क में रूपांतरण _____ कहलाता है।

- Ans
- ✗ 1. स्थानांतरण (shifting)
 - ✗ 2. उभार (bulging)
 - ✓ 3. कायांतरण (metamorphosis)
 - ✗ 4. मुकुलन (budding)

Question Type : MCQ
Question ID : 264330139761
Option 1 ID : 264330547461
Option 2 ID : 264330547462
Option 3 ID : 264330547460
Option 4 ID : 264330547459
Status : Answered
Chosen Option : 3

Section : English Language and Comprehension

Q.1 Fill in the blank with the most appropriate option.

Pay attention to what's happening and make _____ adjustments based on your personal experience.

- Ans
- ✗ 1. impartial
 - ✗ 2. honest
 - ✗ 3. placid
 - ✓ 4. reasonable

Question Type : MCQ
Question ID : 264330136586
Option 1 ID : 264330535076
Option 2 ID : 264330535075
Option 3 ID : 264330535078
Option 4 ID : 264330535077
Status : Answered
Chosen Option : 4

Q.2 Identify the segment that contains a grammatical error. If there is no error, select 'No error'.

Eddie just panics/ when it gets close/ nearer the end.

- Ans**
- 1. when it gets close
 - 2. Eddie just panics
 - 3. nearer the end.
 - 4. No error

Question Type : **MCQ**
Question ID : **264330136536**
Option 1 ID : **264330534884**
Option 2 ID : **264330534883**
Option 3 ID : **264330534885**
Option 4 ID : **264330534886**
Status : **Answered**
Chosen Option : **3**

Q.3 Fill in the blank with the most appropriate option.

The only one _____ shattered their monotony by his visits was Krishna.

- Ans**
- 1. which ever
 - 2. whom ever
 - 3. who ever
 - 4. whatever

Question Type : **MCQ**
Question ID : **264330136416**
Option 1 ID : **264330534428**
Option 2 ID : **264330534427**
Option 3 ID : **264330534430**
Option 4 ID : **264330534429**
Status : **Answered**
Chosen Option : **3**

Q.4 Select the most appropriate word for the given group of words.

A violent wind that has a circular movement

- Ans**
- 1. Tsunami
 - 2. Drought
 - 3. Deluge
 - 4. Hurricane

Question Type : **MCQ**
Question ID : **264330136576**
Option 1 ID : **264330535035**
Option 2 ID : **264330535037**
Option 3 ID : **264330535038**
Option 4 ID : **264330535036**
Status : **Answered**
Chosen Option : **4**

Q.5 Select the correctly spelt word.

- Ans** 1. Contribute
 2. Contriibute
 3. Contribuet
 4. Contriibute

Question Type : **MCQ**
Question ID : **264330136209**
Option 1 ID : **264330533630**
Option 2 ID : **264330533629**
Option 3 ID : **264330533627**
Option 4 ID : **264330533628**
Status : **Answered**
Chosen Option : **1**

Q.6 Select the most appropriate option to substitute the bracketed segment in the given sentence. If there is no need to substitute it, select 'no substitution required'.

(Neither of the political factions have had much) interest in environmental intent.

- Ans** 1. No substitution required
 2. Neither of the political faction has have much
 3. Neither of the political factions have had any
 4. Neither of the political factions has had much

Question Type : **MCQ**
Question ID : **264330136539**
Option 1 ID : **264330534898**
Option 2 ID : **264330534895**
Option 3 ID : **264330534896**
Option 4 ID : **264330534897**
Status : **Answered**
Chosen Option : **3**

Q.7 Improve the underlined part of the sentence. Choose 'No improvement' as an answer if the sentence is grammatically correct.

I try to eat less meat and more vegetables.

- Ans** 1. to eat lesser
 2. No improvement
 3. to ate less
 4. to eats less

Question Type : **MCQ**
Question ID : **264330141212**
Option 1 ID : **264330553183**
Option 2 ID : **264330553186**
Option 3 ID : **264330553185**
Option 4 ID : **264330553184**
Status : **Answered**
Chosen Option : **2**

Q.8 Select the most appropriate option to substitute the bracketed segment in the given sentence. If there is no need to substitute it, select 'no substitution required'.
(Many a opportunities came and went while) he laid wasted.

- Ans**
- 1. Many an opportunity came and went while
 - 2. Many opportunities come and went as
 - 3. No substitution required
 - 4. Many an oppotunities came and gone while

Question Type : **MCQ**
Question ID : **264330136746**
Option 1 ID : **264330535691**
Option 2 ID : **264330535693**
Option 3 ID : **264330535694**
Option 4 ID : **264330535692**
Status : **Answered**
Chosen Option : **1**

Q.9 Select the most appropriate antonym of the given word.

Irreverent

- Ans**
- 1. Restoration
 - 2. Relevant
 - 3. Respectful
 - 4. Dormant

Question Type : **MCQ**
Question ID : **264330135863**
Option 1 ID : **264330532316**
Option 2 ID : **264330532318**
Option 3 ID : **264330532315**
Option 4 ID : **264330532317**
Status : **Answered**
Chosen Option : **3**

Q.10 Four sentences are given, out of which three have spelling errors. Choose the sentence with all correctly spelt words.

- Ans**
- 1. The job of the artist is to make the revolution perceptible.
 - 2. Except that it'll be rooted in awkard, funny and compelling reality.
 - 3. Microsoft announced plans to make bids to acquire Byte Dance.
 - 4. She used the 14th Amendment to acheive equality.

Question Type : **MCQ**
Question ID : **264330136158**
Option 1 ID : **264330533433**
Option 2 ID : **264330533431**
Option 3 ID : **264330533432**
Option 4 ID : **264330533434**
Status : **Answered**
Chosen Option : **1**

Q.11 In the following question, out of the given four alternatives, select the alternative which best expresses the meaning of the Idiom/Phrase.
In the nick of time

- Ans** 1. Only just in time
 2. Every time
 3. Frequently
 4. Meantime

Question Type : **MCQ**
Question ID : **264330141166**
Option 1 ID : **264330553008**
Option 2 ID : **264330553009**
Option 3 ID : **264330553010**
Option 4 ID : **264330553007**
Status : **Answered**
Chosen Option : **4**

Q.12 Identify the segment that contains a grammatical error. If there is no error, select 'No error'.

The NCGG has been/ set up to assist in / bring about governance reforms through studies.

- Ans** 1. bring about governance reforms through studies.
 2. set up to assist in
 3. The NCGG has been
 4. No error

Question Type : **MCQ**
Question ID : **264330136563**
Option 1 ID : **264330534989**
Option 2 ID : **264330534988**
Option 3 ID : **264330534987**
Option 4 ID : **264330534990**
Status : **Answered**
Chosen Option : **1**

Q.13 Select the most appropriate option to fill in the blank.

Lumber has many _____ beyond home building.

- Ans** 1. uses
 2. pluses
 3. loses
 4. trunks

Question Type : **MCQ**
Question ID : **264330136368**
Option 1 ID : **264330534242**
Option 2 ID : **264330534240**
Option 3 ID : **264330534239**
Option 4 ID : **264330534241**
Status : **Answered**
Chosen Option : **1**

Q.14 Select the most appropriate antonym to substitute the bracketed word in the given sentence.

He is (frank) about what he sees as the shortcomings of his great predecessors.

- Ans**
- 1. evasive
 - 2. assisting
 - 3. fortunate
 - 4. cheerful

Question Type : **MCQ**
Question ID : **264330136502**
Option 1 ID : **264330534752**
Option 2 ID : **264330534754**
Option 3 ID : **264330534753**
Option 4 ID : **264330534751**
Status : **Answered**
Chosen Option : **1**

Q.15 Select the most appropriate word for the given group of words.

One who hates or discriminates against women.

- Ans**
- 1. Misogynist
 - 2. Atheist
 - 3. Feminist
 - 4. Pessimist

Question Type : **MCQ**
Question ID : **264330135859**
Option 1 ID : **264330532300**
Option 2 ID : **264330532302**
Option 3 ID : **264330532299**
Option 4 ID : **264330532301**
Status : **Answered**
Chosen Option : **1**

Q.16 Find the part of the given sentence that has an error in it. If there is no error, choose 'No error'.

The participants responds to a series of statements at the dance competition.

- Ans**
- 1. at the dance competition.
 - 2. The participants responds
 - 3. to a series of statements
 - 4. No error

Question Type : **MCQ**
Question ID : **264330135536**
Option 1 ID : **264330531049**
Option 2 ID : **264330531047**
Option 3 ID : **264330531048**
Option 4 ID : **264330531050**
Status : **Answered**
Chosen Option : **2**

Q.17 Select the appropriate synonym for the underlined word.

I am parched, dehydrated to the point of pain.

- Ans
- 1. Washed
 - 2. Braced
 - 3. Moistened
 - 4. Drained

Question Type : MCQ
Question ID : 264330141213
Option 1 ID : 264330553187
Option 2 ID : 264330553189
Option 3 ID : 264330553188
Option 4 ID : 264330553190
Status : Answered
Chosen Option : 4

Q.18 Select the most appropriate synonym of the given word.

Golden

- Ans
- 1. Dull
 - 2. Dark
 - 3. Gloomy
 - 4. Shining

Question Type : MCQ
Question ID : 264330136177
Option 1 ID : 264330533503
Option 2 ID : 264330533504
Option 3 ID : 264330533505
Option 4 ID : 264330533506
Status : Answered
Chosen Option : 4

Q.19 The statement below has been given with bracketed text. Select the option with correct idiom for the bracketed text.

Don't start to think we've (won this game certainly), gentlemen.

- Ans
- 1. got this game in the bag
 - 2. have skin in the game
 - 3. swallowed the bitter truth
 - 4. held our horses

Question Type : MCQ
Question ID : 264330135866
Option 1 ID : 264330532327
Option 2 ID : 264330532329
Option 3 ID : 264330532328
Option 4 ID : 264330532330
Status : Answered
Chosen Option : 4

Q.20 Select the most appropriate option to fill in the blank.

Many people may not find the rewards _____ with the time and effort required.

- Ans**
- 1. coffer
 - 2. collude
 - 3. commensurate
 - 4. capable

Question Type : **MCQ**

Question ID : **264330136490**

Option 1 ID : **264330534710**

Option 2 ID : **264330534708**

Option 3 ID : **264330534707**

Option 4 ID : **264330534709**

Status : **Answered**

Chosen Option : **3**

Comprehension:

In the following passage some of the words have been deleted. Read the passage carefully and select the correct answer for the given blank out of the four alternatives.

The figure of Arthur first appeared in Welsh poetry in the (1) _____ sixth and early seventh centuries, a hero who was (2) _____ lead the Britons in battle against Saxon invaders. But it wasn't (3) _____ the 12th century that he was first tied to this dramatic headland, known as Tintagel.

The timeless popularity of the Arthur legend has overshadowed a central, unresolved (4) _____ : Was there really a King Arthur, or at least a historical prototype upon whom Geoffrey's hero is (5) _____?

SubQuestion No : 21

Q.21 Select the most appropriate option to fill in blank number 1.

- Ans**
- 1. latest
 - 2. least
 - 3. latter
 - 4. late

Question Type : **MCQ**

Question ID : **264330135239**

Option 1 ID : **264330529878**

Option 2 ID : **264330529875**

Option 3 ID : **264330529877**

Option 4 ID : **264330529876**

Status : **Answered**

Chosen Option : **4**

Comprehension:

In the following passage some of the words have been deleted. Read the passage carefully and select the correct answer for the given blank out of the four alternatives.

The figure of Arthur first appeared in Welsh poetry in the (1) _____ sixth and early seventh centuries, a hero who was (2) _____ lead the Britons in battle against Saxon invaders. But it wasn't (3) _____ the 12th century that he was first tied to this dramatic headland, known as Tintagel.

The timeless popularity of the Arthur legend has overshadowed a central, unresolved (4) _____ : Was there really a King Arthur, or at least a historical prototype upon whom Geoffrey's hero is (5) _____ ?

SubQuestion No : 22

Q.22 Select the most appropriate option to fill in blank number 2.

- Ans**
- 1. said to
 - 2. told
 - 3. brought to
 - 4. tamed to

Question Type : **MCQ**

Question ID : **264330135240**

Option 1 ID : **264330529881**

Option 2 ID : **264330529880**

Option 3 ID : **264330529879**

Option 4 ID : **264330529882**

Status : **Answered**

Chosen Option : **3**

Comprehension:

In the following passage some of the words have been deleted. Read the passage carefully and select the correct answer for the given blank out of the four alternatives.

The figure of Arthur first appeared in Welsh poetry in the (1) _____ sixth and early seventh centuries, a hero who was (2) _____ lead the Britons in battle against Saxon invaders. But it wasn't (3) _____ the 12th century that he was first tied to this dramatic headland, known as Tintagel.

The timeless popularity of the Arthur legend has overshadowed a central, unresolved (4) _____ : Was there really a King Arthur, or at least a historical prototype upon whom Geoffrey's hero is (5) _____ ?

SubQuestion No : 23

Q.23 Select the most appropriate option to fill in blank number 3.

- Ans**
- 1. none
 - 2. until
 - 3. beyond
 - 4. unless

Question Type : **MCQ**

Question ID : **264330135241**

Option 1 ID : **264330529883**

Option 2 ID : **264330529886**

Option 3 ID : **264330529885**

Option 4 ID : **264330529884**

Status : **Answered**

Chosen Option : **3**

Comprehension:

In the following passage some of the words have been deleted. Read the passage carefully and select the correct answer for the given blank out of the four alternatives.

The figure of Arthur first appeared in Welsh poetry in the (1) _____ sixth and early seventh centuries, a hero who was (2) _____ lead the Britons in battle against Saxon invaders. But it wasn't (3) _____ the 12th century that he was first tied to this dramatic headland, known as Tintagel.

The timeless popularity of the Arthur legend has overshadowed a central, unresolved (4) _____ : Was there really a King Arthur, or at least a historical prototype upon whom Geoffrey's hero is (5) _____ ?

SubQuestion No : 24

Q.24 Select the most appropriate option to fill in blank number 4.

- Ans
- 1. mess
 - 2. commotion
 - 3. question
 - 4. establishment

Question Type : **MCQ**
Question ID : **264330135242**
Option 1 ID : **264330529890**
Option 2 ID : **264330529889**
Option 3 ID : **264330529888**
Option 4 ID : **264330529887**
Status : **Answered**
Chosen Option : **4**

Comprehension:

In the following passage some of the words have been deleted. Read the passage carefully and select the correct answer for the given blank out of the four alternatives.

The figure of Arthur first appeared in Welsh poetry in the (1) _____ sixth and early seventh centuries, a hero who was (2) _____ lead the Britons in battle against Saxon invaders. But it wasn't (3) _____ the 12th century that he was first tied to this dramatic headland, known as Tintagel.

The timeless popularity of the Arthur legend has overshadowed a central, unresolved (4) _____ : Was there really a King Arthur, or at least a historical prototype upon whom Geoffrey's hero is (5) _____ ?

SubQuestion No : 25

Q.25 Select the most appropriate option to fill in blank number 5.

- Ans
- 1. caged
 - 2. based
 - 3. hanged
 - 4. found

Question Type : **MCQ**
Question ID : **264330135243**
Option 1 ID : **264330529892**
Option 2 ID : **264330529893**
Option 3 ID : **264330529894**
Option 4 ID : **264330529891**
Status : **Not Answered**
Chosen Option : **--**

Multi Tasking Non Technical Staff and Havaladar CBIC and CBN Examination 2022

Roll Number	KD Job Updates
Candidate Name	KD Job Updates
Venue Name	S.P. Education Institute of IT & Management
Exam Date	14/06/2023
Exam Time	12:00 PM - 2:00 PM
Subject	MTS Non Tech Havaladar CBIC and CBN Examination 2022

Section : Numerical and Mathematical Ability

Q.1 6400 कर्मचारियों की एक कंपनी में पुरुष और महिला कर्मचारियों का अनुपात 5:3 है। कंपनी में पुरुष कर्मचारियों की संख्या कितनी होगी?

- Ans
- 1. 4500
 - 2. 4000
 - 3. 3500
 - 4. 3000

Question Type : MCQ
Question ID : 264330133744
Option 1 ID : 264330524000
Option 2 ID : 264330523999
Option 3 ID : 264330524002
Option 4 ID : 264330524001
Status : Answered
Chosen Option : 2

Q.2 $\frac{(55 + 88) \div [(3 \times 5 + 4) - 64 \div 8]}{28 \times 7 \div 56 \times 4 \text{ of } (91 - 78)}$ का मान क्या है?

- Ans
- 1. 1/13
 - 2. 1/12
 - 3. 1/14
 - 4. 1/11

Question Type : MCQ
Question ID : 264330137340
Option 1 ID : 264330537988
Option 2 ID : 264330537989
Option 3 ID : 264330537987
Option 4 ID : 264330537990
Status : Answered
Chosen Option : 3

Q.3 यदि आशोष कार्य का 2/3 भाग 22 दिनों में पूरा कर सकता है। तो वह पूरा कार्य कितने दिनों में करेगा?

- Ans
- 1. 30 दिन
 - 2. 15 दिन
 - 3. 22 दिन
 - 4. 33 दिन

Question Type : MCQ

Question ID : 264330138406

Option 1 ID : 264330542234

Option 2 ID : 264330542233

Option 3 ID : 264330542232

Option 4 ID : 264330542231

Status : Answered

Chosen Option : 4

Q.4 यदि $2 + 4 \div (A + 6) \times 2 = 16/7$ है, तो A का मान क्या होगा?

- Ans
- 1. 20
 - 2. 23
 - 3. 21
 - 4. 22

Question Type : MCQ

Question ID : 264330133736

Option 1 ID : 264330523970

Option 2 ID : 264330523967

Option 3 ID : 264330523969

Option 4 ID : 264330523968

Status : Answered

Chosen Option : 4

Q.5 एक परीक्षा में, उपस्थित छात्रों की कुल संख्या में से 87 प्रतिशत छात्र उत्तीर्ण हुए, और 3250 छात्र अनुत्तीर्ण हुए। परीक्षा में उपस्थित छात्रों की कुल संख्या कितनी है?

- Ans
- 1. 22500
 - 2. 26800
 - 3. 28000
 - 4. 25000

Question Type : MCQ

Question ID : 264330137327

Option 1 ID : 264330537936

Option 2 ID : 264330537935

Option 3 ID : 264330537937

Option 4 ID : 264330537938

Status : Answered

Chosen Option : 4

Q.6 राहुल अपना कार्य 7 दिनों में पूरा कर सकता है और राज 4 दिनों में कार्य पूरा कर सकता है। साथ मिलकर कार्य को पूरा करने में उन्हें कुल कितने दिन लगेंगे?

Ans

✗ 1. $\frac{28}{13}$ दिन

✓ 2. $\frac{28}{11}$ दिन

✗ 3. $\frac{15}{11}$ दिन

✗ 4. $\frac{14}{11}$ दिन

Question Type : MCQ

Question ID : 264330135101

Option 1 ID : 264330529340

Option 2 ID : 264330529339

Option 3 ID : 264330529342

Option 4 ID : 264330529341

Status : Answered

Chosen Option : 2

Q.7 एक लड़के की औसत चाल जात कीजिए यदि वह कुल दूरी का $\frac{1}{6}$ भाग 5 km/hr की चाल से तय करता है और शेष दूरी को 25 km/hr की चाल से तय करने के लिए बाइक चलाता है। कुल दूरी 60 km है।

Ans

✗ 1. 20 km/hr

✓ 2. 15 km/hr

✗ 3. 12 km/hr

✗ 4. 13 km/hr

Question Type : MCQ

Question ID : 264330138373

Option 1 ID : 264330542100

Option 2 ID : 264330542099

Option 3 ID : 264330542102

Option 4 ID : 264330542101

Status : Answered

Chosen Option : 2

Q.8 एक वस्तु को Rs. 1600 में खरीदकर Rs. 3200 में बेच दिया गया। लाभ प्रतिशत जात कीजिए।

Ans

✗ 1. 90%

✓ 2. 100%

✗ 3. 75%

✗ 4. 50%

Question Type : MCQ

Question ID : 264330133742

Option 1 ID : 264330523991

Option 2 ID : 264330523994

Option 3 ID : 264330523992

Option 4 ID : 264330523993

Status : Answered

Chosen Option : 2

Q.9 नीचे दी गई तालिका में 6 वर्षों में दो कंपनियों द्वारा किए गए बाइक के उत्पादन को दर्शाया गया है।

वर्ष	A	B
P	300	550
Q	150	400
R	250	300
S	500	100
T	150	50
U	200	150

J1 = वर्ष P, Q, R और S में A द्वारा किए गए बाइक के औसत उत्पादन का मान।

J2 = वर्ष T और U में B द्वारा किए गए बाइक के औसत उत्पादन का मान।

(J1/J2) का मान क्या है?

- Ans 1. 3
 2. 1
 3. 2
 4. 4

Question Type : MCQ

Question ID : 264330137341

Option 1 ID : 264330537994

Option 2 ID : 264330537992

Option 3 ID : 264330537991

Option 4 ID : 264330537993

Status : Answered

Chosen Option : 1

Q.10 50 वस्तुओं को बेचने पर, एक दुकानदार 10 वस्तुओं के विक्रय मूल्य के बराबर लाभ अर्जित करता है। उसका लाभ प्रतिशत क्या है?

- Ans 1. 25%
 2. 10%
 3. 40%
 4. 15%

Question Type : MCQ

Question ID : 264330135115

Option 1 ID : 264330529395

Option 2 ID : 264330529396

Option 3 ID : 264330529397

Option 4 ID : 264330529398

Status : Answered

Chosen Option : 1

Q.11 दो संख्याओं 6 और 24 का तृतीय समानुपाती ज्ञात कीजिए।

- Ans
- 1. 94
 - 2. 84
 - 3. 86
 - 4. 96

Question Type : MCQ
Question ID : 264330133745
Option 1 ID : 264330524006
Option 2 ID : 264330524005
Option 3 ID : 264330524003
Option 4 ID : 264330524004
Status : Answered
Chosen Option : 4

Q.12 11 संख्याओं का योग 660 है। उनका औसत ज्ञात कीजिए।

- Ans
- 1. 60
 - 2. 80
 - 3. 66
 - 4. 10

Question Type : MCQ
Question ID : 264330133738
Option 1 ID : 264330523975
Option 2 ID : 264330523977
Option 3 ID : 264330523976
Option 4 ID : 264330523978
Status : Answered
Chosen Option : 1

Q.13 यदि चक्रवृद्धि ब्याज पर एक निश्चित धनराशि 5 वर्षों में स्वयं की 2 गुनी हो जाती है, तो कितने वर्षों में वह स्वयं की 8 गुनी हो जाएगी?

- Ans
- 1. 15 वर्ष
 - 2. 18 वर्ष
 - 3. 12 वर्ष
 - 4. 20 वर्ष

Question Type : MCQ
Question ID : 264330137332
Option 1 ID : 264330537958
Option 2 ID : 264330537956
Option 3 ID : 264330537955
Option 4 ID : 264330537957
Status : Answered
Chosen Option : 1

Q.14 Rs.30000 की धनराशि 3 वर्षों के लिए चक्रवृद्धि ब्याज (वार्षिक रूप से संयोजित) पर ऋण पर दी जाती है। यदि पहले वर्ष के लिए ब्याज की दर 10 प्रतिशत, दूसरे वर्ष के लिए 20 प्रतिशत और तीसरे वर्ष के लिए 30 प्रतिशत है, तो कुल चक्रवृद्धि ब्याज कितना होगा?

- Ans**
- 1. Rs. 20560
 - 2. Rs. 22580
 - 3. Rs. 21480
 - 4. Rs. 19270

Question Type : **MCQ**

Question ID : **264330137656**

Option 1 ID : **264330539233**

Option 2 ID : **264330539234**

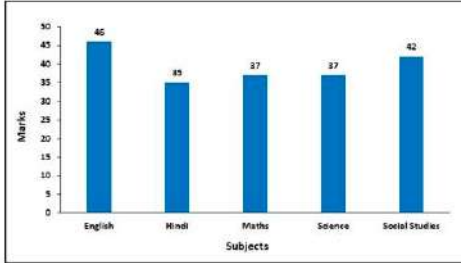
Option 3 ID : **264330539232**

Option 4 ID : **264330539231**

Status : **Answered**

Chosen Option : **3**

Q.15 रीना द्वारा प्राप्त किए गए अंकों को आलेख में दर्शाया गया है। गणना कीजिए कि उसने विज्ञान में हिंदी की तुलना में कितने अधिक अंक प्राप्त किए?



Marks = अंक

English = अंग्रेज़ी, Hindi = हिन्दी, Maths = गणित, Science = विज्ञान, Social Studies = सामाजिक विज्ञान

Subjects = विषय

- Ans**
- 1. 4
 - 2. 2
 - 3. 3
 - 4. 5

Question Type : **MCQ**

Question ID : **264330133752**

Option 1 ID : **264330524033**

Option 2 ID : **264330524031**

Option 3 ID : **264330524032**

Option 4 ID : **264330524034**

Status : **Answered**

Chosen Option : **2**

Q.16 30 kmph की चाल से चल रही 1800 m लंबी एक रेलगाड़ी एक सिग्नल के खंबे को कितने समय में पार कर लेगी?

- Ans
- ✓ 1. 216 सेकंड
 - ✗ 2. 250 सेकंड
 - ✗ 3. 200 सेकंड
 - ✗ 4. 220 सेकंड

Question Type : MCQ

Question ID : 264330133748

Option 1 ID : 264330524015

Option 2 ID : 264330524017

Option 3 ID : 264330524018

Option 4 ID : 264330524016

Status : Answered

Chosen Option : 1

Q.17 दुकानदार ने Rs. 3500 अंकित मूल्य वाली वस्तु पर 30% का बट्टा दिया। वस्तु का विक्रय मूल्य क्या होगा?

- Ans
- ✗ 1. Rs.3000
 - ✗ 2. Rs.1500
 - ✗ 3. Rs.2400
 - ✓ 4. Rs.2450

Question Type : MCQ

Question ID : 264330133743

Option 1 ID : 264330523997

Option 2 ID : 264330523998

Option 3 ID : 264330523995

Option 4 ID : 264330523996

Status : Answered

Chosen Option : 4

Q.18 एक लम्बवृत्तीय बेलन की त्रिज्या 7 cm है। बेलन की ऊँचाई उसकी त्रिज्या की तीन गुनी है। बेलन का वक्र पृष्ठीय क्षेत्रफल कितना है?

- Ans
- ✓ 1. 924 cm²
 - ✗ 2. 666 cm²
 - ✗ 3. 264 cm²
 - ✗ 4. 724 cm²

Question Type : MCQ

Question ID : 264330138411

Option 1 ID : 264330542252

Option 2 ID : 264330542253

Option 3 ID : 264330542251

Option 4 ID : 264330542254

Status : Answered

Chosen Option : 1

Q.19 45 m भुजा वाले घन का कुल पृष्ठीय क्षेत्रफल ज्ञात कीजिए।

- Ans
- 1. 2341 m²
 - 2. 12150 m²
 - 3. 1342 m²
 - 4. 1213 m²

Question Type : MCQ
Question ID : 264330135105
Option 1 ID : 264330529357
Option 2 ID : 264330529355
Option 3 ID : 264330529356
Option 4 ID : 264330529358
Status : Answered
Chosen Option : 2

Q.20 54 और 48 का लघुत्तम समापवर्त्य (LCM) क्या होगा?

- Ans
- 1. 423
 - 2. 412
 - 3. 432
 - 4. 456

Question Type : MCQ
Question ID : 264330138762
Option 1 ID : 264330543656
Option 2 ID : 264330543655
Option 3 ID : 264330543657
Option 4 ID : 264330543658
Status : Answered
Chosen Option : 3

Section : Reasoning Ability and Problem Solving

Q.1 छः व्यक्ति एक वृत्ताकार मेज के चारों ओर केंद्र की ओर मुख करके बैठे हैं। P और S के बीच केवल D बैठा है। M और L के बीच केवल X बैठा है। S, M के ठीक दाएँ पर बैठा है। P के ठीक दाएँ पर कौन बैठा है?

- Ans
- 1. L
 - 2. D
 - 3. M
 - 4. S

Question Type : MCQ
Question ID : 264330133452
Option 1 ID : 264330522841
Option 2 ID : 264330522839
Option 3 ID : 264330522840
Option 4 ID : 264330522842
Status : Answered
Chosen Option : 1

Q.2 दी गई श्रृंखला में निम्नलिखित में से कौन-सी संख्या प्रश्न चिन्ह (?) के स्थान पर आएगी?
85, 84, 82, 79, 75, 70, 64, ?

- Ans
- 1. 59
 - 2. 57
 - 3. 76
 - 4. 82

Question Type : MCQ
Question ID : 264330133458
Option 1 ID : 264330522863
Option 2 ID : 264330522864
Option 3 ID : 264330522865
Option 4 ID : 264330522866
Status : Answered
Chosen Option : 2

Q.3 दिए गए पैटर्न का ध्यानपूर्वक अध्ययन कीजिए और उस संख्या को चुनिए जो इसमें प्रश्न चिन्ह(?)के स्थान पर आ सकती है।
प्रथम पंक्ति- 74, 85, 96
द्वितीय पंक्ति- 67, 78, 89
तृतीय पंक्ति- 84, 95, ?

- Ans
- 1. 112
 - 2. 106
 - 3. 246
 - 4. 124

Question Type : MCQ
Question ID : 264330133460
Option 1 ID : 264330522874
Option 2 ID : 264330522872
Option 3 ID : 264330522873
Option 4 ID : 264330522871
Status : Answered
Chosen Option : 2

Q.4 उस विकल्प को चुनिए जो छठे पद से ठीक उसी प्रकार संबंधित है जिस प्रकार पहला पद दूसरे पद से संबंधित है और तीसरा पद चौथे पद से संबंधित है।

FGH : GJM :: AKC : BNH :: ? : UUV

- Ans
- 1. TTQ
 - 2. TRR
 - 3. TSQ
 - 4. TRQ

Question Type : MCQ
Question ID : 264330137516
Option 1 ID : 264330538674
Option 2 ID : 264330538673
Option 3 ID : 264330538672
Option 4 ID : 264330538671
Status : Answered
Chosen Option : 4

Q.5 एक निश्चित कूट भाषा में, 'SPEEDS' को 'URGGFU' लिखा जाता है। उस कूट भाषा में 'SPOKEN' को कैसे लिखा जाएगा?

- Ans**
- 1. URQNGP
 - 2. URQNGQ
 - 3. URQMGP
 - 4. URPNGP

Question Type : **MCQ**

Question ID : **264330138481**

Option 1 ID : **264330542534**

Option 2 ID : **264330542532**


Option 3 ID : **264330542531**

Option 4 ID : **264330542533**

Status : **Answered**

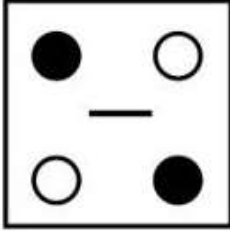
Chosen Option : **3**

Q.6 उस विकल्प आकृति को चुनिए जो नीचे दी गई आकृति में पैटर्न को पूरा करने के लिए प्रश्न चिन्ह (?) के स्थान पर आएगी। (घूर्णन की अनुमति नहीं है)




Ans

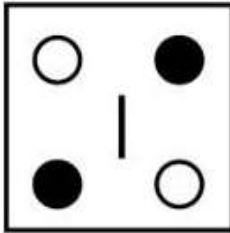
✗ 1.



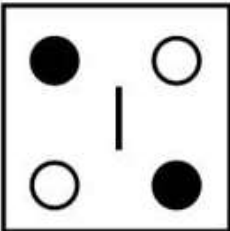
✗ 2.



✓ 3.



✗ 4.



Question Type : **MCQ**

Question ID : **264330133465**

Option 1 ID : **264330522891**

Option 2 ID : **264330522892**

Option 3 ID : **264330522893**

Option 4 ID : **264330522894**

Status : **Answered**

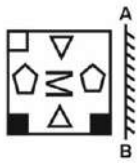
Chosen Option : **3**

Q.7 दिए गए समीकरण को सही करने के लिए किन दो संख्याओं को आपस में बदला जाना चाहिए?
 $8 \times 3 - 12 \div 6 + 18 = 33$

- Ans
- 1. 8 और 3
 - 2. 18 और 33
 - 3. 12 और 18
 - 4. 12 और 33

Question Type : MCQ
 Question ID : 264330133461
 Option 1 ID : 264330522877
 Option 2 ID : 264330522876
 Option 3 ID : 264330522875
 Option 4 ID : 264330522878
 Status : Answered
 Chosen Option : 3

Q.8 यदि एक दर्पण को रेखा AB पर रखा जाए, तो दी गई विकल्प आकृतियों में से कौन-सी आकृति प्रश्न आकृति का सही प्रतिबिम्ब होगी?



Ans

- 1.
- 2.
- 3.
- 4.

Question Type : MCQ
 Question ID : 264330137385
 Option 1 ID : 264330538167
 Option 2 ID : 264330538170
 Option 3 ID : 264330538168
 Option 4 ID : 264330538169
 Status : Answered
 Chosen Option : 2

Q.9 उस विकल्प को चुनिए जो तीसरे अक्षर-समूह से ठीक उसी प्रकार संबंधित है जिस प्रकार दूसरा अक्षर-समूह पहले अक्षर-समूह से संबंधित है।
HSFM : KPIJ :: QDRC : ?

- Ans 1. TAUZ
 2. TAZU
 3. TZAU
 4. TUAZ

Question Type : MCQ
Question ID : 264330133447
Option 1 ID : 264330522821
Option 2 ID : 264330522822
Option 3 ID : 264330522820
Option 4 ID : 264330522819
Status : Answered
Chosen Option : 1

Q.10 सात व्यक्ति P, R, S, T, U, V, और W एक सीधी पंक्ति में उत्तर दिशा की ओर मुख करके खड़े हैं। R, T के बाएँ से दूसरे स्थान पर खड़ा है। T, W के बाएँ से तीसरे स्थान पर खड़ा है। R और S दोनों में से किसी भी कोने पर नहीं खड़े हैं। U, V का निकटतम पड़ोसी है। V दाएँ कोने से दूसरे स्थान पर खड़ा है। R के ठीक बाएँ पर कौन खड़ा है?

- Ans 1. P
 2. S
 3. U
 4. V

Question Type : MCQ
Question ID : 264330133453
Option 1 ID : 264330522845
Option 2 ID : 264330522843
Option 3 ID : 264330522844
Option 4 ID : 264330522846
Status : Answered
Chosen Option : 1

Q.11 एक निश्चित कूट भाषा में, 'RUE' को 'IFV' लिखा जाता है। उस कूट भाषा में 'WRY' को कैसे लिखा जाएगा?

- Ans 1. DJB
 2. DIC
 3. BID
 4. DIB

Question Type : MCQ
Question ID : 264330137814
Option 1 ID : 264330539866
Option 2 ID : 264330539865
Option 3 ID : 264330539863
Option 4 ID : 264330539864
Status : Answered
Chosen Option : 4

Q.12 उस विकल्प को चुनिए जो छठवीं संख्या से ठीक उसी प्रकार संबंधित है जिस प्रकार पहली संख्या दूसरी संख्या से संबंधित है और तीसरी संख्या चौथी संख्या से संबंधित है।

4 : 63 :: 7 : 342 :: ? : 728

Ans 1. 9

2. 13

3. 11

4. 8

Question Type : MCQ

Question ID : 264330137380

Option 1 ID : 264330538148

Option 2 ID : 264330538150

Option 3 ID : 264330538149

Option 4 ID : 264330538147

Status : Answered

Chosen Option : 1

Q.13 दो कथन दिए गए हैं और उनके बाद दो निष्कर्ष I और II दिए गए हैं। कथनों को सत्य मानते हुए, चाहे वे सामान्यतः जात तथ्यों से अलग प्रतीत होते हों, निश्चय कीजिए कि कौन-सा निष्कर्ष तार्किक रूप से कथनों के अनुसार है।

कथन:

अधिकांश लाल, पीले हैं।

कुछ पीले, हरे हैं।

निष्कर्ष:

I. कुछ हरे, पीले हैं।

II. कुछ हरे, लाल हैं।

Ans 1. केवल निष्कर्ष I कथनों के अनुसार है।

2. न तो निष्कर्ष I और न ही II कथनों के अनुसार है।

3. निष्कर्ष I और II दोनों कथनों के अनुसार हैं।

4. केवल निष्कर्ष II कथनों के अनुसार है।

Question Type : MCQ

Question ID : 264330133456

Option 1 ID : 264330522855

Option 2 ID : 264330522858

Option 3 ID : 264330522857

Option 4 ID : 264330522856

Status : Answered

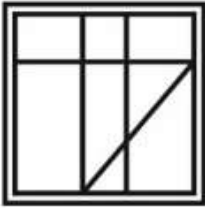
Chosen Option : 1

Q.14 उस विकल्प आकृति को चुनिए जिसमें दी गई आकृति निहित है।(घूर्णन की अनुमति नहीं है)




Ans


✗ 1.




✓ 2.



✗ 3.



✗ 4.



Question Type : MCQ

Question ID : 264330137384

Option 1 ID : 264330538165

Option 2 ID : 264330538164

Option 3 ID : 264330538166

Option 4 ID : 264330538163

Status : Answered

Chosen Option : 2

Q.15 निम्नलिखित प्रश्न में, दी गई श्रृंखला में लुप्त संख्या को चुनिए ।

2, 20, 38, 56, 74, ?

Ans ✗ 1. 90

✗ 2. 91

✗ 3. 88

✓ 4. 92

Question Type : MCQ

Question ID : 264330137378

Option 1 ID : 264330538140

Option 2 ID : 264330538142

Option 3 ID : 264330538141

Option 4 ID : 264330538139

Status : Answered

Chosen Option : 4

Q.16 दी गई श्रृंखला में निम्नलिखित में से कौन-सा अक्षर प्रश्न चिन्ह (?) के स्थान पर आएगा?
F, G, I, L, P, U, A, ?

- Ans
- 1. I
 - 2. J
 - 3. G
 - 4. H

Question Type : MCQ

Question ID : 264330133446

Option 1 ID : 264330522815

Option 2 ID : 264330522817

Option 3 ID : 264330522818

Option 4 ID : 264330522816

Status : Answered

Chosen Option : 4

Q.17 एक परीक्षा में सात मित्रों प्रदीप, आशु, ऋषि, सैम, टीना, उमा और विक्की के प्राप्तांक दिए गए हैं। किसी भी दो विद्यार्थियों के अंक समान नहीं हैं। प्रदीप ने विक्की से कम परंतु आशु से अधिक अंक प्राप्त किए। ऋषि और टीना ने सबसे अधिक और सबसे कम अंक प्राप्त किए लेकिन जरूरी नहीं कि इसी क्रम में। उमा के प्राप्तांक केवल ऋषि के प्राप्तांकों से कम थे। सैम द्वारा प्राप्त अंक केवल एक मित्र से अधिक थे। किसके प्राप्तांक आशु और टीना के प्राप्तांकों के बीच में थे?

- Ans
- 1. सैम
 - 2. विक्की
 - 3. प्रदीप
 - 4. उमा

Question Type : MCQ

Question ID : 264330133454

Option 1 ID : 264330522849

Option 2 ID : 264330522850

Option 3 ID : 264330522848

Option 4 ID : 264330522847

Status : Answered

Chosen Option : 1

Q.18 दो कथन दिए गए हैं और उनके बाद दो निष्कर्ष I और II दिए गए हैं। कथनों को सत्य मानते हुए, चाहे वे सामान्यतः जात तथ्यों से अलग प्रतीत होते हों, निश्चय कीजिए कि कौन-सा निष्कर्ष तार्किक रूप से कथनों के अनुसार है।
कथन:

कुछ शो, अच्छे हैं।

कुछ फिल्में, अच्छी हैं।

निष्कर्ष:

I. कुछ अच्छी, फिल्में हैं।

II. कुछ अच्छे, शो हैं।

Ans 1. न तो निष्कर्ष I और न ही II कथनों के अनुसार है।

2. केवल निष्कर्ष I कथनों के अनुसार है।

3. निष्कर्ष I और II दोनों कथनों के अनुसार हैं।

4. केवल निष्कर्ष II कथनों के अनुसार है।

Question Type : **MCQ**

Question ID : **264330133455**

Option 1 ID : **264330522854**

Option 2 ID : **264330522851**

Option 3 ID : **264330522853**

Option 4 ID : **264330522852**

Status : **Answered**

Chosen Option : **3**

Q.19 यदि A का अर्थ 'जोड़', B का अर्थ 'गुणा', C का अर्थ 'घटाव' और D का अर्थ 'भाग' हो, तो निम्नलिखित समीकरण का मान क्या होगा?
(16 D 4) A 7 C 5 =?

Ans 1. 8

2. 6

3. 5

4. 3

Question Type : **MCQ**

Question ID : **264330137577**

Option 1 ID : **264330538918**

Option 2 ID : **264330538917**

Option 3 ID : **264330538915**

Option 4 ID : **264330538916**

Status : **Answered**

Chosen Option : **2**

Q.20 किसी एक खास कूट भाषा में, 'DMQPD' को 'ENQQE' लिखा जाता है। उस कूट भाषा में 'XAGIV' को कैसे लिखा जाएगा?

- Ans
- 1. YBWJG
 - 2. YBGJW
 - 3. YBGIW
 - 4. YJBGW

Question Type : MCQ
Question ID : 264330133370
Option 1 ID : 264330522514
Option 2 ID : 264330522513
Option 3 ID : 264330522512
Option 4 ID : 264330522511
Status : Answered
Chosen Option : 2

Section : General Awareness

Q.1 कजरी (Kajari) भारत की एक लोक गीत और नृत्य शैली है। इसकी उत्पत्ति _____ में हुई है।

- Ans
- 1. पंजाब
 - 2. पश्चिम बंगाल
 - 3. उत्तर प्रदेश
 - 4. केरल

Question Type : MCQ
Question ID : 264330133908
Option 1 ID : 264330524657
Option 2 ID : 264330524655
Option 3 ID : 264330524656
Option 4 ID : 264330524658
Status : Answered
Chosen Option : 3

Q.2 इस्लामी चंद्र कैलेंडर (Islamic lunar calendar) में पहला महीना कौन-सा है?

- Ans
- 1. मुहर्रम
 - 2. सफ़र
 - 3. शव्वाल
 - 4. रमज़ान

Question Type : MCQ
Question ID : 264330137388
Option 1 ID : 264330538179
Option 2 ID : 264330538180
Option 3 ID : 264330538182
Option 4 ID : 264330538181
Status : Answered
Chosen Option : 4

Q.3 गांधी-इरविन समझौता कब हुआ था?

- Ans
- 1. 1929
 - 2. 1931
 - 3. 1935
 - 4. 1928

Question Type : MCQ
Question ID : 264330137751
Option 1 ID : 264330539611
Option 2 ID : 264330539613
Option 3 ID : 264330539612
Option 4 ID : 264330539614
Status : Answered
Chosen Option : 2

Q.4 निम्नलिखित में से किस अनुच्छेद में "गिरफ्तारी और निरोध से संरक्षण" का उल्लेख है?

- Ans
- 1. अनुच्छेद 24
 - 2. अनुच्छेद 22
 - 3. अनुच्छेद 20
 - 4. अनुच्छेद 18

Question Type : MCQ
Question ID : 264330134606
Option 1 ID : 264330527382
Option 2 ID : 264330527380
Option 3 ID : 264330527381
Option 4 ID : 264330527379
Status : Answered
Chosen Option : 2

Q.5 The British Parliament passed the Regulating Act in _____.

- Ans
- 1. 1773
 - 2. 1775
 - 3. 1877
 - 4. 1876

Question Type : MCQ
Question ID : 264330137411
Option 1 ID : 264330538274
Option 2 ID : 264330538271
Option 3 ID : 264330538273
Option 4 ID : 264330538272
Status : Answered
Chosen Option : 1

Q.6 2011 की जनगणना के अनुसार, महिला साक्षरता दर लगभग कितने प्रतिशत है?

- Ans
- 1. 95%
 - 2. 55%
 - 3. 65%
 - 4. 85%

Question Type : MCQ
Question ID : 264330137697
Option 1 ID : 264330539395
Option 2 ID : 264330539397
Option 3 ID : 264330539398
Option 4 ID : 264330539396
Status : Answered
Chosen Option : 3

Q.7 क्रिकेट में, गेंद को हवा में ऐसे मरना की गेंद बाउंड्री के पार हो जाए, यह _____ रन के बराबर होता है।

- Ans
- 1. 2
 - 2. 3
 - 3. 4
 - 4. 6

Question Type : MCQ
Question ID : 264330133928
Option 1 ID : 264330524735
Option 2 ID : 264330524736
Option 3 ID : 264330524737
Option 4 ID : 264330524738
Status : Answered
Chosen Option : 4

Q.8 कृष्णा नदी भारत के _____ राज्य से होकर बहती है।

- Ans
- 1. उड़ीसा
 - 2. कर्नाटक
 - 3. तमिलनाडु
 - 4. केरल

Question Type : MCQ
Question ID : 264330133916
Option 1 ID : 264330524690
Option 2 ID : 264330524688
Option 3 ID : 264330524689
Option 4 ID : 264330524687
Status : Answered
Chosen Option : 3

Q.9 नई दिल्ली अंतर्राष्ट्रीय मध्यस्थता केंद्र (संशोधन) विधेयक (New Delhi International Arbitration Centre (Amendment) Bill), 2022 द्वारा, नई दिल्ली अंतर्राष्ट्रीय मध्यस्थता केंद्र अधिनियम, 2019 को लागू करने में आने वाली किसी भी कठिनाई को दूर करने के लिए केंद्र सरकार को दी गई समयवधि को इस अधिनियम के प्रारंभ होने की तारीख से _____ वर्ष तक बढ़ा दिया गया है।

- Ans
- 1. 3
 - 2. 6
 - 3. 5
 - 4. 4

Question Type : MCQ

Question ID : 264330137737

Option 1 ID : 264330539555

Option 2 ID : 264330539558

Option 3 ID : 264330539557

Option 4 ID : 264330539556

Status : Not Answered

Chosen Option : --

Q.10 सामूहिक विनाश के हथियार और उनकी वितरण प्रणाली (गैरकानूनी गतिविधियों पर पाबंदी) संशोधन विधेयक-2022 भारत सरकार के _____ से संबंधित है।

- Ans
- 1. विदेश मंत्रालय
 - 2. रक्षा मंत्रालय
 - 3. नागरिक उड्डयन मंत्रालय
 - 4. वित्त मंत्रालय

Question Type : MCQ

Question ID : 264330133906

Option 1 ID : 264330524650

Option 2 ID : 264330524648

Option 3 ID : 264330524649

Option 4 ID : 264330524647

Status : Answered

Chosen Option : 2

Q.11 भारतीय संविधान के अनुसार, भारत में राज्य विधान सभा का कार्यकाल कितना है?

- Ans
- 1. 7 वर्ष
 - 2. 3 वर्ष
 - 3. 5 वर्ष
 - 4. 4 वर्ष

Question Type : MCQ

Question ID : 264330133927

Option 1 ID : 264330524734

Option 2 ID : 264330524731

Option 3 ID : 264330524733

Option 4 ID : 264330524732

Status : Answered

Chosen Option : 3

Q.12 गुलाबो सपेरा (Gulabo Sapera) निम्नलिखित में से किस नृत्य शैली से संबंधित है?

- Ans
- 1. कालबेलिया
 - 2. भरतनाट्यम
 - 3. कथकली
 - 4. ओडिसी

Question Type : MCQ

Question ID : 264330137938

Option 1 ID : 264330540359

Option 2 ID : 264330540361

Option 3 ID : 264330540362

Option 4 ID : 264330540360

Status : Not Answered

Chosen Option : --

Q.13 अरबी मूलग्रंथ "किताब-उल-हिंद (Kitab ul-Hind)" _____ द्वारा लिखा गया था।

- Ans
- 1. जियाउद्दीन बरनी (Ziauddin Barani)
 - 2. सुल्तान महमूद (Sultan Mahmud)
 - 3. अल - बिरूनी (Al- Biruni)
 - 4. इब्न बतूता (Ibn Battuta)

Question Type : MCQ

Question ID : 264330137409

Option 1 ID : 264330538266

Option 2 ID : 264330538263

Option 3 ID : 264330538264

Option 4 ID : 264330538265

Status : Answered

Chosen Option : 3

Q.14 Which of the following statement is NOT correct regarding fertilizers?

- Ans
- 1. They are very rich in plant nutrients
 - 2. They provide humus to the soil
 - 3. They are prepared in factories
 - 4. They are man-made inorganic salt

Question Type : MCQ

Question ID : 264330137401

Option 1 ID : 264330538234

Option 2 ID : 264330538233

Option 3 ID : 264330538232

Option 4 ID : 264330538231

Status : Answered

Chosen Option : 4

Q.15 निम्नलिखित में से किसने प्रसिद्ध बॉलीवुड गीत "ऐ दिल है मुश्किल (Ae Dil Hai Mushkil)" गाया है?

- Ans
- 1. सुखबीर
 - 2. श्रेया घोषाल
 - 3. नीति मोहन
 - 4. अरिजीत सिंह

Question Type : MCQ
Question ID : 264330133924
Option 1 ID : 264330524719
Option 2 ID : 264330524721
Option 3 ID : 264330524722
Option 4 ID : 264330524720
Status : Answered
Chosen Option : 4

Q.16 एक लंबी अवधि तक, जैसे 25 वर्ष में, किसी स्थान के मौसम के एकत्रित आंकड़ों के आधार पर बना मौसम का पैटर्न, उस स्थान की/का _____ कहलाता है।

- Ans
- 1. जलवायु
 - 2. भू-आकृतियाँ
 - 3. पर्यावरण
 - 4. परिस्थितिकी

Question Type : MCQ
Question ID : 264330137402
Option 1 ID : 264330538238
Option 2 ID : 264330538235
Option 3 ID : 264330538236
Option 4 ID : 264330538237
Status : Answered
Chosen Option : 1

Q.17 ऐसे पदार्थों, जिनसे होकर वस्तुओं को नहीं देखा जा सकता, _____ कहलाते हैं।

- Ans
- 1. अपारदर्शी पदार्थ
 - 2. पारदर्शी पदार्थ
 - 3. पारभासी पदार्थ
 - 4. पीले पदार्थ (pale materials)

Question Type : MCQ
Question ID : 264330137403
Option 1 ID : 264330538241
Option 2 ID : 264330538239
Option 3 ID : 264330538240
Option 4 ID : 264330538242
Status : Answered
Chosen Option : 1

Q.18 तमिलनाडु में ऐरावतेश्वर (Airavastesvara) मंदिर का निर्माण _____ ने करवाया था।

- Ans
- 1. महाराजा सवाई जयसिंह द्वितीय
 - 2. महाराजा प्रताप सिंह
 - 3. राजराजा चोल प्रथम
 - 4. राजराजा चोल द्वितीय

Question Type : MCQ

Question ID : 264330137740

Option 1 ID : 264330539569

Option 2 ID : 264330539570

Option 3 ID : 264330539568

Option 4 ID : 264330539567

Status : Answered

Chosen Option : 4

Q.19 8 सितंबर 2022 को, नीति आयोग (NITI Aayog) ने, _____ के सहयोग से देश के पहले राष्ट्रीय इलेक्ट्रिक फ्रेट प्लेटफॉर्म (national electric freight platform) - सतत परिवहन के लिए इलेक्ट्रिक फ्रेट एक्सेलेरेटर (Electric Freight Accelerator for Sustainable Transport) - भारत (ई-फास्ट इंडिया(e-FAST India)) का शुभारंभ किया।

- Ans
- 1. अंतरराष्ट्रीय मुद्रा कोष (International Monetary Fund)
 - 2. विश्व संसाधन संस्थान (World Resources Institute)
 - 3. विश्व स्वास्थ्य संगठन (World Health Organisation)
 - 4. विश्व बैंक (World Bank)

Question Type : MCQ

Question ID : 264330137928

Option 1 ID : 264330540321

Option 2 ID : 264330540319

Option 3 ID : 264330540322

Option 4 ID : 264330540320

Status : Answered

Chosen Option : 4

Q.20 टोक्यो ओलंपिक 2020 (वर्ष 2021 में खेले गए) में भारत ने कितने कांस्य पदक जीते?

- Ans
- 1. तीन
 - 2. पाँच
 - 3. छः
 - 4. चार

Question Type : MCQ

Question ID : 264330137391

Option 1 ID : 264330538191

Option 2 ID : 264330538193

Option 3 ID : 264330538194

Option 4 ID : 264330538192

Status : Answered

Chosen Option : 4

Q.21 निम्नलिखित में से कौन-सी पुस्तक अरविंद अडिगा द्वारा नहीं लिखी गई थी?

- Ans
- 1. एमनेस्टी (Amnesty)
 - 2. द कॉस्ट ऑफ लिविंग (The Cost of Living)
 - 3. द व्हाइट टाइगर (The White Tiger)
 - 4. लास्ट मैन इन टॉवर (Last Man in Tower)

Question Type : MCQ
Question ID : 264330137936
Option 1 ID : 264330540353
Option 2 ID : 264330540354
Option 3 ID : 264330540351
Option 4 ID : 264330540352
Status : Not Answered
Chosen Option : --

Q.22 मौर्य साम्राज्य में कई शहर थे। निम्नलिखित में से कौन-सा शहर सबसे दक्षिणी छोर पर स्थित था?

- Ans
- 1. गिरनार
 - 2. रूपनाथ
 - 3. ब्रह्मगिरी
 - 4. टोपरा

Question Type : MCQ
Question ID : 264330137408
Option 1 ID : 264330538261
Option 2 ID : 264330538260
Option 3 ID : 264330538262
Option 4 ID : 264330538259
Status : Answered
Chosen Option : 2

Q.23 भारतीय संविधान की प्रस्तावना के अनुसार, भारत एक _____ देश है।

- Ans
- 1. कुलीनतंत्रीय (Aristocratic)
 - 2. गणराज्य (Republic)
 - 3. धार्मिक (Religious)
 - 4. उदारवादी (Liberal)

Question Type : MCQ
Question ID : 264330133926
Option 1 ID : 264330524728
Option 2 ID : 264330524729
Option 3 ID : 264330524727
Option 4 ID : 264330524730
Status : Answered
Chosen Option : 2

Q.24 डाकघर बचत बैंकों में बचत जमाएँ मुद्रा पूर्ति की किस माप में शामिल की जाती हैं?

- Ans 1. M2
 2. M4
 3. M1
 4. M3

Question Type : MCQ
Question ID : 264330137943
Option 1 ID : 264330540380
Option 2 ID : 264330540382
Option 3 ID : 264330540379
Option 4 ID : 264330540381
Status : Not Answered
Chosen Option : --

Q.25 निम्नलिखित में से कौन-सा अम्ल सिरके के pH को अम्लीय बनाता है?

- Ans 1. टार्टरिक अम्ल
 2. साइट्रिक अम्ल
 3. लिनोलिक (Linoleic) अम्ल
 4. ऐसीटिक अम्ल

Question Type : MCQ
Question ID : 264330133912
Option 1 ID : 264330524672
Option 2 ID : 264330524671
Option 3 ID : 264330524674
Option 4 ID : 264330524673
Status : Answered
Chosen Option : 4

Section : English Language and Comprehension

Q.1 Select the most appropriate meaning of the given idiom.

Fixed in one's ways

Ans 1. To establish one's rule

2.

Something that shows potential or looks promising in the beginning but fails to deliver anything in the end

3.

Not willing or wanting to change from your normal way of doing something

4. An aggressive attack on someone by a group

Question Type : MCQ
Question ID : 264330135813
Option 1 ID : 264330532124
Option 2 ID : 264330532126
Option 3 ID : 264330532125
Option 4 ID : 264330532123
Status : Answered
Chosen Option : 3

Q.2 Fill in the blank with the most appropriate choice.

The issue of fairness, which remained, was for consideration at the hearing to _____ the scheme.

- Ans
- 1. stratification
 - 2. altercation
 - 3. acclamation
 - 4. sanction

Question Type : **MCQ**
Question ID : **264330135817**
Option 1 ID : **264330532142**
Option 2 ID : **264330532139**
Option 3 ID : **264330532140**
Option 4 ID : **264330532141**
Status : **Answered**
Chosen Option : **4**

Q.3 Select the appropriate antonym for the underlined word.

Sunny turned to find his daughter's sweet, bright eyes close to his.

- Ans
- 1. gleaming
 - 2. anxious
 - 3. merry
 - 4. dusky

Question Type : **MCQ**
Question ID : **264330134391**
Option 1 ID : **264330526544**
Option 2 ID : **264330526543**
Option 3 ID : **264330526546**
Option 4 ID : **264330526545**
Status : **Answered**
Chosen Option : **4**

Q.4 Select the most appropriate option to substitute the bracketed segment in the given sentence. If there is no need to substitute it, select 'no substitution required'.

(This bridge neither crossed the Thames, and neither gave) access to a now-lost island in the river.

- Ans
- 1. This bridge neither crossed the Thames, nor gave
 - 2. This bridge either crossed the Thames, and or gave
 - 3. This bridge either crossed the Thames, nor gave
 - 4. No substitution required

Question Type : **MCQ**
Question ID : **264330136034**
Option 1 ID : **264330532956**
Option 2 ID : **264330532957**
Option 3 ID : **264330532955**
Option 4 ID : **264330532958**
Status : **Answered**
Chosen Option : **1**

Q.5 Improve the underlined part of the sentence. Choose 'No improvement' as an answer if the sentence is grammatically correct.

The final cost depends on whether you chooses the small or the large size.

- Ans
- 1. chose the small
 - 2. choose the small
 - 3. choose the smaller
 - 4. No improvement

Question Type : **MCQ**

Question ID : **264330134324**

Option 1 ID : **264330526287**

Option 2 ID : **264330526288**

Option 3 ID : **264330526289**

Option 4 ID : **264330526290**

Status : **Answered**

Chosen Option : **2**

Q.6 Choose the incorrectly spelt word.

- Ans
- 1. Surge
 - 2. Grease
 - 3. Mimic
 - 4. Potantial

Question Type : **MCQ**

Question ID : **264330134394**

Option 1 ID : **264330526557**

Option 2 ID : **264330526558**

Option 3 ID : **264330526556**

Option 4 ID : **264330526555**

Status : **Answered**

Chosen Option : **4**

Q.7 A sentence has been given with a blank to be filled with an appropriate option. Choose the correct alternative.

Neither she _____ I have expected Reema's arrival.

- Ans
- 1. or
 - 2. nor
 - 3. along
 - 4. and

Question Type : **MCQ**

Question ID : **264330134378**

Option 1 ID : **264330526497**

Option 2 ID : **264330526496**

Option 3 ID : **264330526495**

Option 4 ID : **264330526498**

Status : **Answered**

Chosen Option : **2**

Q.8 Select the most appropriate antonym of the given word.

Mound

- Ans
- 1. Victory
 - 2. Bell
 - 3. Valley
 - 4. Prominence

Question Type : MCQ
Question ID : 264330136101
Option 1 ID : 264330533214
Option 2 ID : 264330533213
Option 3 ID : 264330533211
Option 4 ID : 264330533212
Status : Not Answered
Chosen Option : --

Q.9 Improve the underlined part of the sentence. Choose 'No improvement' as an answer if the sentence is grammatically correct.

The camel uses fat as a source of energy during its longer journey in the desert.

- Ans
- 1. its longest journeyed
 - 2. its long journey
 - 3. it's longer journey
 - 4. No improvement

Question Type : MCQ
Question ID : 264330134377
Option 1 ID : 264330526493
Option 2 ID : 264330526492
Option 3 ID : 264330526491
Option 4 ID : 264330526494
Status : Answered
Chosen Option : 2

Q.10 Select the most appropriate word for the given group of words.

A thing that is kept as a reminder of a person, place, or event

- Ans
- 1. Sinecure
 - 2. Souvenir
 - 3. Panacea
 - 4. Regalia

Question Type : MCQ
Question ID : 264330135807
Option 1 ID : 264330532100
Option 2 ID : 264330532099
Option 3 ID : 264330532102
Option 4 ID : 264330532101
Status : Answered
Chosen Option : 2

Q.11 Choose the word that can substitute the given group of words.
Famous or well-known for a negative reason

- Ans 1. Formidable
 2. Unpopular
 3. Notorious
 4. Reputable

Question Type : **MCQ**
Question ID : **264330134387**
Option 1 ID : **264330526528**
Option 2 ID : **264330526530**
Option 3 ID : **264330526529**
Option 4 ID : **264330526527**
Status : **Answered**
Chosen Option : **3**

Q.12 Find the part of the given sentence that has an error in it. If there is no error, choose 'No error'.

Why are you making excuses too avoid this work?

- Ans 1. Why are you
 2. making excuses too
 3. No error
 4. avoid this work?

Question Type : **MCQ**
Question ID : **264330134771**
Option 1 ID : **264330528031**
Option 2 ID : **264330528032**
Option 3 ID : **264330528034**
Option 4 ID : **264330528033**
Status : **Answered**
Chosen Option : **2**

Q.13 In the following question, out of the given four alternatives, select the alternative which best expresses the meaning of the Idiom/Phrase.
Cold fish

- Ans 1. To make a lot of money
 2. To retract one's statements
 3. A person lacking in sympathy
 4. A dead body

Question Type : **MCQ**
Question ID : **264330134393**
Option 1 ID : **264330526554**
Option 2 ID : **264330526553**
Option 3 ID : **264330526551**
Option 4 ID : **264330526552**
Status : **Answered**
Chosen Option : **1**

Q.14 Select the appropriate synonym for the underlined word.
She goes to her room and locks herself in.

- Ans** 1. Shuts
 2. taunts
 3. sinks
 4. hurts

Question Type : **MCQ**
Question ID : **264330134388**
Option 1 ID : **264330526531**
Option 2 ID : **264330526534**
Option 3 ID : **264330526533**
Option 4 ID : **264330526532**
Status : **Answered**
Chosen Option : **1**

Q.15 Select the most appropriate synonym to substitute the bracketed word in the given sentence.
In the midst of the tumult of charges against him, a (welter) of conflicting poll numbers are being bandied about.

- Ans** 1. Turmoil
 2. Static
 3. Peace
 4. Dynamic

Question Type : **MCQ**
Question ID : **264330136048**
Option 1 ID : **264330533008**
Option 2 ID : **264330533010**
Option 3 ID : **264330533009**
Option 4 ID : **264330533007**
Status : **Not Answered**
Chosen Option : **--**

Q.16 Select the most appropriate option to fill in the blank.
Our breathing rate can change almost instantaneously in response to stress or _____.

- Ans** 1. difference
 2. fund
 3. attention
 4. arousal

Question Type : **MCQ**
Question ID : **264330134397**
Option 1 ID : **264330526570**
Option 2 ID : **264330526567**
Option 3 ID : **264330526569**
Option 4 ID : **264330526568**
Status : **Answered**
Chosen Option : **4**

Q.17 Select the wrongly spelt word.

- Ans
- 1. supersede
 - 2. quarantine
 - 3. eminent
 - 4. develop

Question Type : MCQ

Question ID : 264330135816

Option 1 ID : 264330532135

Option 2 ID : 264330532136

Option 3 ID : 264330532138

Option 4 ID : 264330532137

Status : Answered

Chosen Option : 1

Q.18 Identify the segment that contains a grammatical error. If there is no error, select 'No error'.

I have never seen a man / get off his horse quick as / did that stranger Englishman.

- Ans
- 1. No error
 - 2. did that stranger Englishman.
 - 3. get off his horse quick as
 - 4. I have never seen a man

Question Type : MCQ

Question ID : 264330136031

Option 1 ID : 264330532946

Option 2 ID : 264330532945

Option 3 ID : 264330532944

Option 4 ID : 264330532943

Status : Answered

Chosen Option : 4

Q.19 Find the part of the given sentence that has an error in it. If there is no error, choose 'No error'.

His absence from my party is too much painful for me.

- Ans
- 1. party is too much
 - 2. No error
 - 3. painful for me.
 - 4. His absence from my

Question Type : MCQ

Question ID : 264330134374

Option 1 ID : 264330526480

Option 2 ID : 264330526482

Option 3 ID : 264330526481

Option 4 ID : 264330526479

Status : Answered

Chosen Option : 4

Q.20 Select the most appropriate option to fill in the blank.

Those unfamiliar with the saga are bound to be mystified by the more _____ plot twists.

- Ans**
- 1. arcane
 - 2. anoint
 - 3. aesthetic
 - 4. arbitrary

Question Type : **MCQ**

Question ID : **264330136038**

Option 1 ID : **264330532972**

Option 2 ID : **264330532973**

Option 3 ID : **264330532974**

Option 4 ID : **264330532971**

Status : **Answered**

Chosen Option : **2**

Comprehension:

In the following passage some words have been deleted. Fill in the blanks with the help of the alternatives given. Select the most appropriate option for each number.

Archaeologists believe that counting large quantities (1) _____ about 10,000 years ago. Early farmers had to (2) _____ for communally stored crops. Early counting systems involved small tokens which represented farmers' stores.

In the area which is now southern Iraq, little figures shaped like discs, balls, and pyramids (3) _____ used in about 7500 B.C. to represent various holdings. Later, marks which represented the figures were (4) _____ on clay tablets by use of a blunt reed to cut into the wet clay. Still, the symbols were (5) _____ connected with specific merchandise.

SubQuestion No : 21

Q.21 Select the most appropriate option to fill in the blank No. 1.

- Ans**
- 1. began
 - 2. allured
 - 3. blessed
 - 4. ended

Question Type : **MCQ**

Question ID : **264330136092**

Option 1 ID : **264330533177**

Option 2 ID : **264330533175**

Option 3 ID : **264330533178**

Option 4 ID : **264330533176**

Status : **Answered**

Chosen Option : **1**

Comprehension:

In the following passage some words have been deleted. Fill in the blanks with the help of the alternatives given. Select the most appropriate option for each number.

Archaeologists believe that counting large quantities (1) _____ about 10,000 years ago. Early farmers had to (2) _____ for communally stored crops. Early counting systems involved small tokens which represented farmers' stores. In the area which is now southern Iraq, little figures shaped like discs, balls, and pyramids (3) _____ used in about 7500 B.C. to represent various holdings. Later, marks which represented the figures were (4) _____ on clay tablets by use of a blunt reed to cut into the wet clay. Still, the symbols were (5) _____ connected with specific merchandise.

SubQuestion No : 22

Q.22 Select the most appropriate option to fill in the blank No. 2.

- Ans
- 1. discount
 - 2. count
 - 3. account
 - 4. undercount

Question Type : **MCQ**

Question ID : **264330136093**

Option 1 ID : **264330533181**

Option 2 ID : **264330533180**

Option 3 ID : **264330533179**

Option 4 ID : **264330533182**

Status : **Answered**

Chosen Option : **2**

Comprehension:

In the following passage some words have been deleted. Fill in the blanks with the help of the alternatives given. Select the most appropriate option for each number.

Archaeologists believe that counting large quantities (1) _____ about 10,000 years ago. Early farmers had to (2) _____ for communally stored crops. Early counting systems involved small tokens which represented farmers' stores. In the area which is now southern Iraq, little figures shaped like discs, balls, and pyramids (3) _____ used in about 7500 B.C. to represent various holdings. Later, marks which represented the figures were (4) _____ on clay tablets by use of a blunt reed to cut into the wet clay. Still, the symbols were (5) _____ connected with specific merchandise.

SubQuestion No : 23

Q.23 Select the most appropriate option to fill in the blank No. 3.

- Ans
- 1. was
 - 2. will be
 - 3. are
 - 4. were

Question Type : **MCQ**

Question ID : **264330136094**

Option 1 ID : **264330533183**

Option 2 ID : **264330533184**

Option 3 ID : **264330533186**

Option 4 ID : **264330533185**

Status : **Answered**

Chosen Option : **4**

Comprehension:

In the following passage some words have been deleted. Fill in the blanks with the help of the alternatives given. Select the most appropriate option for each number.

Archaeologists believe that counting large quantities (1) _____ about 10,000 years ago. Early farmers had to (2) _____ for communally stored crops. Early counting systems involved small tokens which represented farmers' stores.

In the area which is now southern Iraq, little figures shaped like discs, balls, and pyramids (3) _____ used in about 7500 B.C. to represent various holdings. Later, marks which represented the figures were (4) _____ on clay tablets by use of a blunt reed to cut into the wet clay. Still, the symbols were (5) _____ connected with specific merchandise.

SubQuestion No : 24

Q.24 Select the most appropriate option to fill in the blank No. 4.

- Ans**
- 1. subscribed
 - 2. prescribed
 - 3. transcribed
 - 4. inscribed

Question Type : **MCQ**

Question ID : **264330136095**

Option 1 ID : **264330533190**

Option 2 ID : **264330533189**

Option 3 ID : **264330533188**

Option 4 ID : **264330533187**

Status : **Answered**

Chosen Option : **4**

Comprehension:

In the following passage some words have been deleted. Fill in the blanks with the help of the alternatives given. Select the most appropriate option for each number.

Archaeologists believe that counting large quantities (1) _____ about 10,000 years ago. Early farmers had to (2) _____ for communally stored crops. Early counting systems involved small tokens which represented farmers' stores.

In the area which is now southern Iraq, little figures shaped like discs, balls, and pyramids (3) _____ used in about 7500 B.C. to represent various holdings. Later, marks which represented the figures were (4) _____ on clay tablets by use of a blunt reed to cut into the wet clay. Still, the symbols were (5) _____ connected with specific merchandise.

SubQuestion No : 25

Q.25 Select the most appropriate option to fill in the blank No. 5.

- Ans**
- 1. some
 - 2. just
 - 3. always
 - 4. like

Question Type : **MCQ**

Question ID : **264330136096**

Option 1 ID : **264330533191**

Option 2 ID : **264330533193**

Option 3 ID : **264330533194**

Option 4 ID : **264330533192**

Status : **Answered**

Chosen Option : **3**

Multi Tasking Non Technical Staff and Havaladar CBIC and CBN Examination 2022

Roll Number	KD Job Updates
Candidate Name	KD Job Updates
Venue Name	iON Digital Zone iDZ Trinity 2 Headway 2 Kokta Bypass Road
Exam Date	14/06/2023
Exam Time	3:30 PM - 5:00 PM
Subject	MTS Non Tech Havaladar CBIC and CBN Examination 2022

Section : Numerical and Mathematical Ability

Q.1 एक त्रिभुज की भुजाओं का अनुपात 3 : 3 : 4 है। यदि त्रिभुज का क्षेत्रफल $32\sqrt{5}$ cm² है, तो समान भुजाओं की लंबाई कितनी है?

- Ans
- 1. 10 cm
 - 2. 12 cm
 - 3. 16 cm
 - 4. 15 cm

Question Type : MCQ

Question ID : 264330140625

Option 1 ID : 264330550850

Option 2 ID : 264330550848

Option 3 ID : 264330550849

Option 4 ID : 264330550847

Status : Answered

Chosen Option : 2

Q.2 P, Q से 20 प्रतिशत अधिक है। Q, P से कितने प्रतिशत कम है?

- Ans
- 1. 14.28 प्रतिशत
 - 2. 33.33 प्रतिशत
 - 3. 8.33 प्रतिशत
 - 4. 16.66 प्रतिशत

Question Type : MCQ

Question ID : 264330140568

Option 1 ID : 264330550623

Option 2 ID : 264330550625

Option 3 ID : 264330550626

Option 4 ID : 264330550624

Status : Answered

Chosen Option : 4

Q.3 एक व्यक्ति पहले 35 km की दूरी 60 मिनट में और अगले 40 km की दूरी 30 मिनट में तय करता है। पूरी यात्रा में उसकी औसत चाल क्या है?

- Ans
- 1. 42 km/hr
 - 2. 50 km/hr
 - 3. 49 km/hr
 - 4. 63 km/hr

Question Type : MCQ

Question ID : 264330140177

Option 1 ID : 264330549088

Option 2 ID : 264330549090

Option 3 ID : 264330549089

Option 4 ID : 264330549087

Status : Answered

Chosen Option : 2

Q.4 X, Y और Z के वेतन का अनुपात 8 : 5 : 12 है। यदि उनके वेतन में क्रमशः 10 प्रतिशत, 20 प्रतिशत और 30 प्रतिशत की वृद्धि की जाती है, तो उनके बड़े हुए वेतन का अनुपात क्या होगा?

- Ans
- 1. 24 : 47 : 58
 - 2. 22 : 15 : 39
 - 3. 25 : 48 : 59
 - 4. 11 : 25 : 36

Question Type : MCQ

Question ID : 264330139960

Option 1 ID : 264330548220

Option 2 ID : 264330548221

Option 3 ID : 264330548222

Option 4 ID : 264330548219

Status : Answered

Chosen Option : 2

Q.5 P, Q और R की औसत ऊंचाई 160 cm है। यदि P और Q की औसत ऊंचाई 140 cm है और Q और R की औसत ऊंचाई 129 cm है, तो Q की ऊंचाई कितनी है?

- Ans
- 1. 62 cm
 - 2. 58 cm
 - 3. 72 cm
 - 4. 78 cm

Question Type : MCQ

Question ID : 264330140196

Option 1 ID : 264330549163

Option 2 ID : 264330549164

Option 3 ID : 264330549165

Option 4 ID : 264330549166

Status : Answered

Chosen Option : 2

Q.6 एक नाव स्थिर जल में 6 घंटे में 24 km की दूरी तय कर सकती है। यह 38 घंटे में धारा के अनुकूल 56 km और धारा के प्रतिकूल 30 km की दूरी तय कर सकती है। धारा की चाल क्या है?

- Ans
- 1. 4 km/hr
 - 2. 3 km/hr
 - 3. 5 km/hr
 - 4. 3.5 km/hr

Question Type : MCQ
Question ID : 264330140585
Option 1 ID : 264330550692
Option 2 ID : 264330550691
Option 3 ID : 264330550694
Option 4 ID : 264330550693
Status : Answered
Chosen Option : 2

Q.7 $\frac{72}{22} \times \frac{11}{3} \div \frac{21}{9}$ of $\frac{18}{7}$ का मान क्या है?

- Ans
- 1. 2
 - 2. 8
 - 3. 6
 - 4. 36

Question Type : MCQ
Question ID : 264330140599
Option 1 ID : 264330550749
Option 2 ID : 264330550750
Option 3 ID : 264330550747
Option 4 ID : 264330550748
Status : Answered
Chosen Option : 1

Q.8 यदि $A : B : C = 2 : 3 : 4$ है, तो $(A/B) : (B/C) : (C/A)$ का मान क्या होगा?

- Ans
- 1. 12 : 10 : 13
 - 2. 8 : 7 : 25
 - 3. 9 : 5 : 36
 - 4. 8 : 9 : 24

Question Type : MCQ
Question ID : 264330140639
Option 1 ID : 264330550904
Option 2 ID : 264330550903
Option 3 ID : 264330550906
Option 4 ID : 264330550905
Status : Answered
Chosen Option : 4

Q.9 नीचे दी गई तालिका में दो वर्षों (Years) में पाँच कंपनियों (Company) द्वारा किए गए उत्पादन को दर्शाया गया है।

Company	Years	
	L	M
P	150	200
Q	190	220
R	130	180
S	180	150
T	120	140

निम्नलिखित में से कौन-सा कथन सही नहीं है?

I. वर्ष L में P, Q, R और S का औसत उत्पादन 172.5 है।

II. वर्ष L में T के उत्पादन और वर्ष M में T के उत्पादन का अनुपात 6 : 7 है।

Ans

✓ 1. केवल I

✗ 2. न तो I और न ही II

✗ 3. I और II दोनों

✗ 4. केवल II

Question Type : **MCQ**

Question ID : **264330139626**

Option 1 ID : **264330546919**

Option 2 ID : **264330546922**

Option 3 ID : **264330546921**

Option 4 ID : **264330546920**

Status : **Answered**

Chosen Option : 1

Q.10 एक वस्तु का अंकित मूल्य Rs. 1200 है। वस्तु पर 40 प्रतिशत की छूट दी जाती है। यदि 20 प्रतिशत की हानि होती है, तो वस्तु का क्रय मूल्य क्या है?

Ans

✗ 1. Rs. 1020

✗ 2. Rs. 780

✗ 3. Rs. 850

✓ 4. Rs. 900

Question Type : **MCQ**

Question ID : **264330140205**

Option 1 ID : **264330549199**

Option 2 ID : **264330549202**

Option 3 ID : **264330549201**

Option 4 ID : **264330549200**

Status : **Answered**

Chosen Option : 4

Q.11 यदि कुल वस्तुओं का 80 प्रतिशत, 25 प्रतिशत के लाभ पर बेचा जाता है और शेष वस्तुओं को 20 प्रतिशत की हानि पर बेचा जाता है, तो कुल लाभ प्रतिशत क्या होगा?

- Ans
- ✓ 1. 16 प्रतिशत
 - ✗ 2. 20 प्रतिशत
 - ✗ 3. 12.5 प्रतिशत
 - ✗ 4. 15 प्रतिशत

Question Type : MCQ
Question ID : 264330139898
Option 1 ID : 264330547974
Option 2 ID : 264330547971
Option 3 ID : 264330547972
Option 4 ID : 264330547973
Status : Answered
Chosen Option : 1

Q.12 $44 + 67 - 32 \div 4 + (9 + 5 + 5 + 4) - 4 \times 12 \div 6 - 30 \div 5$ का मान है :

- Ans
- ✓ 1. 112
 - ✗ 2. 121
 - ✗ 3. 123
 - ✗ 4. 120

Question Type : MCQ
Question ID : 264330140797
Option 1 ID : 264330551536
Option 2 ID : 264330551537
Option 3 ID : 264330551535
Option 4 ID : 264330551538
Status : Answered
Chosen Option : 1

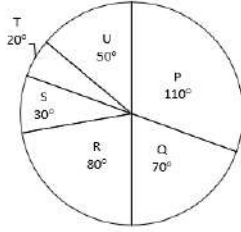
Q.13 X का मान क्या है?

$$X = \frac{7}{5} + \left\{ \frac{1}{5} - \frac{1}{3} \right\} \times \frac{5}{2}$$

- Ans
- ✓ 1. 16/15
 - ✗ 2. 15/16
 - ✗ 3. 19/15
 - ✗ 4. 17/15

Question Type : MCQ
Question ID : 264330139036
Option 1 ID : 264330544752
Option 2 ID : 264330544753
Option 3 ID : 264330544754
Option 4 ID : 264330544751
Status : Answered
Chosen Option : 1

Q.14 नीचे दिए गए वृत्त आलेख में छः राज्यों द्वारा किए गए गेहूँ के उत्पादन को दर्शाया गया है। इन सभी छः राज्यों द्वारा किया गया गेहूँ का कुल उत्पादन 3600 है। इनमें से किसी एक विशिष्ट राज्य द्वारा किए गए गेहूँ के उत्पादन को इन सभी छः राज्यों द्वारा किए गए गेहूँ के कुल उत्पादन के सापेक्ष डिग्री के रूप में दर्शाया गया है।



P और Q द्वारा किए गए गेहूँ के औसत उत्पादन और R और T द्वारा किए गए गेहूँ के औसत उत्पादन के बीच कितना अंतर है?

- Ans** 1. 400
 2. 500
 3. 200
 4. 300

Question Type : MCQ

Question ID : 264330139647

Option 1 ID : 264330547003

Option 2 ID : 264330547006

Option 3 ID : 264330547005

Option 4 ID : 264330547004

Status : Answered

Chosen Option : 1

Q.15 साधारण ब्याज की एक योजना में Rs.2600 की राशि का निवेश किया जाता है। 3 वर्ष में यह राशि Rs.3320 हो जाती है। 5 वर्ष में यह राशि कितनी हो जाएगी?

- Ans** 1. Rs.4500
 2. Rs.3800
 3. Rs.4200
 4. Rs.3600

Question Type : MCQ

Question ID : 264330139921

Option 1 ID : 264330548063

Option 2 ID : 264330548065

Option 3 ID : 264330548064

Option 4 ID : 264330548066

Status : Answered

Chosen Option : 2

Q.16 चक्रवृद्धि ब्याज (वार्षिक रूप से संयोजित) पर 3 वर्ष और 5 वर्ष के बाद एक निश्चित राशि पर प्राप्त राशि क्रमशः Rs. 20,736 और Rs. 29,859.84 है। वह राशि क्या है?

- Ans
- 1. Rs. 9000
 - 2. Rs. 14000
 - 3. Rs. 12000
 - 4. Rs. 15000

Question Type : MCQ
Question ID : 264330140544
Option 1 ID : 264330550532
Option 2 ID : 264330550534
Option 3 ID : 264330550533
Option 4 ID : 264330550531
Status : Answered
Chosen Option : 3

Q.17 P, Q से तीन गुना अधिक कुशल कारीगर है और इसलिए वह Q से 40 दिन कम में एक कार्य को पूरा कर लेता है। वे साथ मिलकर उसी कार्य को कितने दिनों में पूरा कर सकते हैं?

- Ans
- 1. 22.5 दिन
 - 2. 15 दिन
 - 3. 18 दिन
 - 4. 20 दिन

Question Type : MCQ
Question ID : 264330139629
Option 1 ID : 264330546934
Option 2 ID : 264330546933
Option 3 ID : 264330546932
Option 4 ID : 264330546931
Status : Answered
Chosen Option : 4

Q.18 यदि एक शर्ट का विक्रय मूल्य और क्रय मूल्य क्रमशः Rs.945 और Rs.750 है, तो लाभ प्रतिशत क्या है?

- Ans
- 1. 25 प्रतिशत
 - 2. 28 प्रतिशत
 - 3. 22 प्रतिशत
 - 4. 26 प्रतिशत

Question Type : MCQ
Question ID : 264330140179
Option 1 ID : 264330549095
Option 2 ID : 264330549097
Option 3 ID : 264330549096
Option 4 ID : 264330549098
Status : Answered
Chosen Option : 4

Q.19 अवि अकेले किसी कार्य को 60 दिनों में कर सकता है जबकि प्रकाश अकेले उस कार्य को 80 दिनों में कर सकता है। वे साथ मिलकर इस कार्य को कितने दिनों में पूरा करेंगे?

- Ans
- ✓ 1. 240/7 दिन
 - ✗ 2. 140/6 दिन
 - ✗ 3. 270/6 दिन
 - ✗ 4. 250/6 दिन

Question Type : MCQ
Question ID : 264330140791
Option 1 ID : 264330551511
Option 2 ID : 264330551512
Option 3 ID : 264330551514
Option 4 ID : 264330551513
Status : Answered
Chosen Option : 1

Q.20 एक वर्गाकार पार्क की भुजाओं की लंबाई 18 cm है। पार्क के अंदर इसके किनारों पर एक 1 cm चौड़ा पथ है। पथ का क्षेत्रफल क्या है?

- Ans
- ✗ 1. 76 cm²
 - ✓ 2. 68 cm²
 - ✗ 3. 92 cm²
 - ✗ 4. 180 cm²

Question Type : MCQ
Question ID : 264330140597
Option 1 ID : 264330550739
Option 2 ID : 264330550740
Option 3 ID : 264330550742
Option 4 ID : 264330550741
Status : Answered
Chosen Option : 2

Section : Reasoning Ability and Problem Solving

Q.1 उस विकल्प को चुनिए जो तीसरे अक्षर-समूह से ठीक उसी तरह संबंधित है जिस तरह दूसरा अक्षर-समूह पहले अक्षर-समूह से संबंधित है।
SUN : QSL :: ROP : ?

- Ans
- ✗ 1. PMM
 - ✗ 2. PMO
 - ✓ 3. PMN
 - ✗ 4. PNN

Question Type : MCQ
Question ID : 264330141203
Option 1 ID : 264330553149
Option 2 ID : 264330553150
Option 3 ID : 264330553147
Option 4 ID : 264330553148
Status : Answered
Chosen Option : 3

Q.2 पाँच दुकानों M1, M2, M3, M4 और M5 में कलमों की संख्या की तुलना की जाती है। M3 में कलमों की संख्या केवल M1 से अधिक है। कोई भी दो दुकानों में कलमों की संख्या समान नहीं है। M5 में कलमों की संख्या M2 से कम लेकिन M4 से अधिक है। M5 में कलमों की संख्या कितनी दुकानों से अधिक है?

- Ans
- 1. 1
 - 2. 3
 - 3. 2
 - 4. 4

Question Type : MCQ

Question ID : 264330139576

Option 1 ID : 264330546720

Option 2 ID : 264330546722

Option 3 ID : 264330546719

Option 4 ID : 264330546721

Status : Answered

Chosen Option : 2

Q.3 आठ लड़के राम, सुमित, सुनील, राहुल, राज, अमन, अमित और अनिल एक वृत्ताकार मेज के चारों ओर केंद्र की ओर मुख करके बैठे हैं (परंतु जरूरी नहीं कि वे इसी क्रम में बैठें हों)। अनिल, राज या राहुल का निकटतम पड़ोसी नहीं है। अनिल, राम के ठीक बाईं ओर है। अमित, राज का निकटतम पड़ोसी है। अमन, सुमित के ठीक दाईं ओर है। सुनील, राज और अमन के बीच में बैठा है। राज और अनिल दोनों का निकटतम पड़ोसी कौन है?

- Ans
- 1. राहुल
 - 2. अमित
 - 3. सुनील
 - 4. अमन

Question Type : MCQ

Question ID : 264330140962

Option 1 ID : 264330552197

Option 2 ID : 264330552195

Option 3 ID : 264330552198

Option 4 ID : 264330552196

Status : Answered

Chosen Option : 2

Q.4 उस विकल्प को चुनिए जो पाँचवें पद से ठीक उसी प्रकार संबंधित है जिस प्रकार दूसरा पद पहले पद से संबंधित है और चौथा पद तीसरे पद से संबंधित है।

PAN : IFK :: TEA : VJO :: FOR : ?

- Ans
- 1. MTA
 - 2. MTB
 - 3. NTA
 - 4. MUB

Question Type : MCQ

Question ID : 264330140055

Option 1 ID : 264330548602

Option 2 ID : 264330548600

Option 3 ID : 264330548601

Option 4 ID : 264330548599

Status : Answered

Chosen Option : 1

Q.5 उस विकल्प को चुनिए जो पाँचवी संख्या से ठीक उसी प्रकार संबंधित है जिस प्रकार दूसरी संख्या पहली संख्या से संबंधित है और चौथी संख्या तीसरी संख्या से संबंधित है।

15 : 256 :: 16 : 289 :: 18 : ?

- Ans
- 1. 336
 - 2. 361
 - 3. 342
 - 4. 441

Question Type : MCQ

Question ID : 264330140969

Option 1 ID : 264330552224

Option 2 ID : 264330552223

Option 3 ID : 264330552225

Option 4 ID : 264330552226

Status : Answered

Chosen Option : 2

Q.6 पाँच लड़कियाँ A, B, C, D और E एक सीधी रेखा में दक्षिण की ओर मुख करके खड़ी हैं। A, C के ठीक दाईं ओर खड़ी है। D, C और E के बीच में खड़ी है। E किसी भी छोर के आखिर में नहीं खड़ी है। E के बाईं ओर कौन खड़ा है?

- Ans
- 1. A
 - 2. B
 - 3. C
 - 4. D

Question Type : MCQ

Question ID : 264330140019

Option 1 ID : 264330548456

Option 2 ID : 264330548455

Option 3 ID : 264330548457

Option 4 ID : 264330548458

Status : Answered

Chosen Option : 2

Q.7 एक निश्चित कूट भाषा में, 'COUNTY' को 'UOCYTN' लिखा जाता है। उस कूट भाषा में 'HOLDER' को कैसे लिखा जाएगा?

- Ans
- 1. LOHRED
 - 2. LOHDER
 - 3. LHORED
 - 4. LOHERD

Question Type : MCQ

Question ID : 264330138793

Option 1 ID : 264330543780

Option 2 ID : 264330543782

Option 3 ID : 264330543779

Option 4 ID : 264330543781

Status : Answered

Chosen Option : 1

Q.8 किन दो चिहनों और दो संख्याओं को आपस में बदलने पर, दिए गए समीकरण का मान '6' होगा?

$$7 - 2 \times 1 \div 3 + 5$$

Ans 1. \times और $-$, 5 और 3

2. \times और \div , 7 और 5

3. \times और \div , 2 और 7

4. $+$ और $-$, 7 और 5

Question Type : MCQ

Question ID : 264330139544

Option 1 ID : 264330546594

Option 2 ID : 264330546592

Option 3 ID : 264330546593

Option 4 ID : 264330546591

Status : Answered

Chosen Option : 2

Q.9 तीन कथन दिए गए हैं और दो निष्कर्ष I और II दिए गए हैं। कथनों को सत्य मानते हुए, चाहे वे सामान्यतः ज्ञात तथ्यों से अलग प्रतीत होते हों, निश्चय कीजिए कि कौन-सा निष्कर्ष तार्किक रूप से कथनों के अनुसार है।
कथन:

सभी कीलें, सुईयाँ हैं।

कुछ सुईयाँ, मेज़ हैं।

कोई सुई, डिब्बा नहीं है।

निष्कर्ष:

I. कोई मेज़, डिब्बा नहीं है।

II. कुछ कीलें, मेज़ हैं।

Ans 1. सिर्फ निष्कर्ष II कथनों के अनुसार है

2. सिर्फ निष्कर्ष I कथनों के अनुसार है

3. दोनों निष्कर्ष I और II कथनों के अनुसार हैं

4. निष्कर्ष I और II में से कोई भी कथनों के अनुसार नहीं है

Question Type : MCQ

Question ID : 264330138798

Option 1 ID : 264330543800

Option 2 ID : 264330543799

Option 3 ID : 264330543801

Option 4 ID : 264330543802

Status : Answered

Chosen Option : 4

Q.10 दी गई श्रृंखला में निम्नलिखित में से कौन-सा अक्षर प्रश्न चिह्न (?) के स्थान पर आएगा?
K, H, E, B, Y, V, S, P, ?

- Ans
- 1. Q
 - 2. F
 - 3. I
 - 4. M

Question Type : MCQ

Question ID : 264330140073

Option 1 ID : 264330548674

Option 2 ID : 264330548672

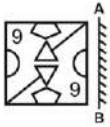
Option 3 ID : 264330548673

Option 4 ID : 264330548671

Status : Answered

Chosen Option : 4

Q.11 यदि एक दर्पण को रेखा AB पर रखा जाए, तो दी गई विकल्प आकृतियों में से कौन-सी आकृति प्रश्न आकृति का सही प्रतिबिम्ब होगी?



Ans


1.



2.



3.



4.



Question Type : MCQ

Question ID : 264330139586

Option 1 ID : 264330546759

Option 2 ID : 264330546760

Option 3 ID : 264330546762

Option 4 ID : 264330546761

Status : Answered

Chosen Option : 4

Q.12 एक निश्चित कूट भाषा में, 'PESO' को '55' लिखा जाता है और 'THEN' को '47' लिखा जाता है। उस कूट भाषा में 'NIKE' को कैसे लिखा जाएगा?

- Ans
- 1. 40
 - 2. 39
 - 3. 38
 - 4. 37

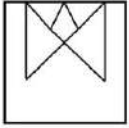
Question Type : MCQ
Question ID : 264330140435
Option 1 ID : 264330550122
Option 2 ID : 264330550119
Option 3 ID : 264330550120
Option 4 ID : 264330550121
Status : Answered
Chosen Option : 2

Q.13 दिए गए समीकरण को सही करने के लिए किन दो चिन्हों को आपस में बदला जाना चाहिए?
 $6 = 9 \div 3 - 2 + 7$

- Ans
- 1. + और =
 - 2. = और -
 - 3. - और +
 - 4. + और \div

Question Type : MCQ
Question ID : 264330140027
Option 1 ID : 264330548488
Option 2 ID : 264330548487
Option 3 ID : 264330548489
Option 4 ID : 264330548490
Status : Answered
Chosen Option : 1

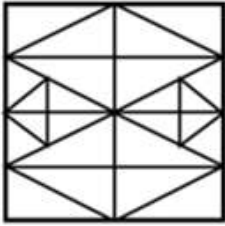
Q.14 उस विकल्प आकृति को चुनिए जिसमें दी गई आकृति (X) इसके भाग के रूप में निहित है। (घूर्णन की अनुमति नहीं है)।



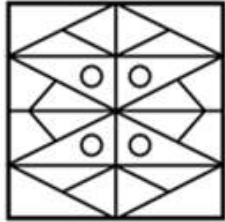
(X)

Ans

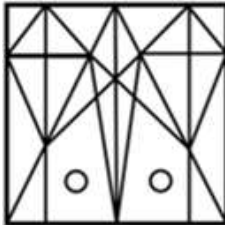
✗ 1.



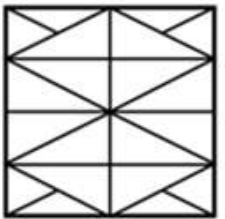
✗ 2.



✓ 3.



✗ 4.



Question Type : MCQ

Question ID : 264330140469

Option 1 ID : 264330550258

Option 2 ID : 264330550255





Option 3 ID : 264330550257

Option 4 ID : 264330550256

Status : Answered

Chosen Option : 3

Q.15 दी गई श्रृंखला में निम्नलिखित में से कौन-सी संख्या प्रश्न चिन्ह (?) के स्थान पर आएगी?
36, 33, 39, 36, 42, 39, 45, ?

- Ans  1. 38
 2. 29
 3. 42
 4. 48

Question Type : **MCQ**

Question ID : **264330140403**

Option 1 ID : **264330549991**

Option 2 ID : **264330549993**

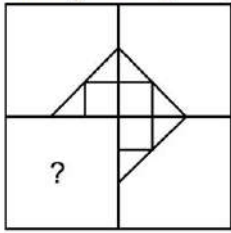
Option 3 ID : **264330549992**

Option 4 ID : **264330549994**

Status : **Answered**

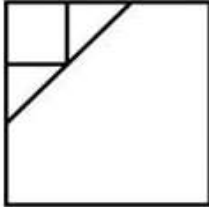
Chosen Option : **3**

Q.16 उस विकल्प आकृति को चुनिए जो नीचे दी गई आकृति में पैटर्न को पूरा करने के लिए प्रश्न चिन्ह (?) के स्थान पर आएगी। (घूर्णन की अनुमति नहीं है)।

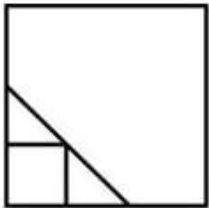


Ans

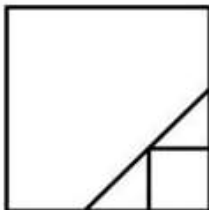
✗ 1.



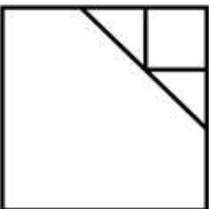
✗ 2.



✗ 3.



✓ 4.



Question Type : **MCQ**

Question ID : **264330138807**

Option 1 ID : **264330543836**

Option 2 ID : **264330543838**

Option 3 ID : **264330543837**

Option 4 ID : **264330543835**

Status : **Answered**

Chosen Option : **4**

Q.17 दो कथन दिए गए हैं और दो निष्कर्ष I और II दिए गए हैं। कथनों को सत्य मानते हुए, चाहे वे सामान्यतः ज्ञात तथ्यों से अलग प्रतीत होते हों, निश्चय कीजिए कि कौन-सा निष्कर्ष तार्किक रूप से कथनों के अनुसार है।
कथन:

सभी डायरियाँ, पुस्तकें हैं।

कुछ बैग, डायरियाँ हैं।

निष्कर्ष:

I. सभी बैग, पुस्तकें हैं।

II. कुछ पुस्तकें, बैग हैं।

Ans 1. न तो निष्कर्ष I और न ही II कथनों के अनुसार है।

2. केवल निष्कर्ष I कथनों के अनुसार है।

3. केवल निष्कर्ष II कथनों के अनुसार है।

4. दोनों निष्कर्ष I और II कथनों के अनुसार हैं।

Question Type : MCQ

Question ID : 264330140102

Option 1 ID : 264330548790

Option 2 ID : 264330548787

Option 3 ID : 264330548788

Option 4 ID : 264330548789

Status : Answered

Chosen Option : 3

Q.18 दिए गए पैटर्न का ध्यानपूर्वक अध्ययन कीजिए और उस संख्या को चुनिए जो इसमें प्रश्न चिन्ह (?) के स्थान पर आ सकती है?

प्रथम पंक्ति- 30, 120, 124

द्वितीय पंक्ति- 40, 160, 164

तृतीय पंक्ति- 22, 88, ?

Ans 1. 90

2. 92

3. 98

4. 89

Question Type : MCQ

Question ID : 264330135362

Option 1 ID : 264330530356

Option 2 ID : 264330530358

Option 3 ID : 264330530355

Option 4 ID : 264330530357

Status : Answered

Chosen Option : 2

Q.19 एक निश्चित कूट भाषा में, 'CODE' को '5SH3' लिखा जाता है। उस भाषा में 'WIRE' को कैसे लिखा जाएगा?

- Ans
- 1. 20MV3
 - 2. 25MV6
 - 3. 25MV3
 - 4. 25NV3

Question Type : MCQ

Question ID : 264330139994

Option 1 ID : 264330548357

Option 2 ID : 264330548356

Option 3 ID : 264330548358

Option 4 ID : 264330548355

Status : Answered

Chosen Option : 3

Q.20 निम्नलिखित प्रश्न में, दी गई श्रृंखला में लुप्त संख्या को चुनिए ।

1, 5, 21, 85, 341, ?

- Ans
- 1. 1365
 - 2. 1370
 - 3. 1380
 - 4. 1360

Question Type : MCQ

Question ID : 264330140988

Option 1 ID : 264330552300

Option 2 ID : 264330552301

Option 3 ID : 264330552302

Option 4 ID : 264330552299

Status : Answered

Chosen Option : 1

Section : General Awareness

Q.1 निम्नलिखित में से कौन-सा उपन्यास प्रसिद्ध भारतीय लेखक मुल्क राज आनंद द्वारा लिखा गया था?

- Ans
- 1. अनटचेबल (Untouchable)
 - 2. द रूम ऑन द रूफ (The Room on the Roof)
 - 3. ट्रेन टू पाकिस्तान (Train to Pakistan)
 - 4. गोदान (Godan)

Question Type : MCQ

Question ID : 264330140743

Option 1 ID : 264330551322

Option 2 ID : 264330551320

Option 3 ID : 264330551321

Option 4 ID : 264330551319

Status : Answered

Chosen Option : 1

Q.2 कौन-सी दो प्रमुख नदियाँ मिलकर गंगा नदी का निर्माण करती हैं?

- Ans
- 1. भागीरथी और मंदाकिनी
 - 2. अलकनंदा और मंदाकिनी
 - 3. मंदाकिनी और धौलीगंगा
 - 4. अलकनंदा और भागीरथी

Question Type : MCQ
Question ID : 264330140661
Option 1 ID : 264330550994
Option 2 ID : 264330550993
Option 3 ID : 264330550992
Option 4 ID : 264330550991
Status : Answered
Chosen Option : 4

Q.3 वर्ष 1896 में प्रथम ओलम्पिक खेलों का आयोजन किस देश में हुआ था?

- Ans
- 1. इटली
 - 2. मिस्र
 - 3. जापान
 - 4. ग्रीस

Question Type : MCQ
Question ID : 264330140339
Option 1 ID : 264330549738
Option 2 ID : 264330549737
Option 3 ID : 264330549736
Option 4 ID : 264330549735
Status : Answered
Chosen Option : 4

Q.4 विज्ञान की आवर्त सारणी में नाइट्रोजन की परमाणु संख्या क्या है?

- Ans
- 1. 11
 - 2. 7
 - 3. 21
 - 4. 18

Question Type : MCQ
Question ID : 264330140756
Option 1 ID : 264330551372
Option 2 ID : 264330551371
Option 3 ID : 264330551374
Option 4 ID : 264330551373
Status : Not Answered
Chosen Option : --

Q.5 भारत में मौद्रिक नीति समिति की अध्यक्षता कौन करता है?

- Ans
- 1. केंद्रीय वित्त मंत्री
 - 2. भारत के नियंत्रक एवं महालेखा परीक्षक
 - 3. गवर्नर, भारतीय रिजर्व बैंक
 - 4. डिप्टी गवर्नर, भारतीय रिजर्व बैंक

Question Type : MCQ
Question ID : 264330140700
Option 1 ID : 264330551147
Option 2 ID : 264330551148
Option 3 ID : 264330551150
Option 4 ID : 264330551149
Status : Answered
Chosen Option : 3

Q.6 इंग्लैंड ने _____ को हराकर आईसीसी पुरुष टी20 विश्व कप 2022 की ट्रॉफी जीती।

- Ans
- 1. न्यूज़ीलैंड
 - 2. ऑस्ट्रेलिया
 - 3. पाकिस्तान
 - 4. भारत

Question Type : MCQ
Question ID : 264330140954
Option 1 ID : 264330552163
Option 2 ID : 264330552165
Option 3 ID : 264330552164
Option 4 ID : 264330552166
Status : Not Answered
Chosen Option : --

Q.7 निम्नलिखित में से किस शब्द का अर्थ "फलों को उगाना" है?

- Ans
- 1. आर्बोरिकल्चर(Arboriculture)
 - 2. पोमिकल्चर(Pomiculture)
 - 3. सेरीकल्चर(Sericulture)
 - 4. एपीकल्चर(Apiculture)

Question Type : MCQ
Question ID : 264330140940
Option 1 ID : 264330552107
Option 2 ID : 264330552109
Option 3 ID : 264330552110
Option 4 ID : 264330552108
Status : Not Answered
Chosen Option : --

Q.8 गुरु वेम्पति चिन्ना सत्यम का संबंध निम्नलिखित में से किस नृत्य शैली से है?

- Ans
- 1. कथक
 - 2. कुचिपुड़ी
 - 3. मणिपुरी
 - 4. भरतनाट्यम

Question Type : MCQ

Question ID : 264330140361

Option 1 ID : 264330549824

Option 2 ID : 264330549825

Option 3 ID : 264330549823

Option 4 ID : 264330549826

Status : Answered

Chosen Option : 4

Q.9 लोक सभा (जनता का सदन) का पहली बार विधिवत गठन _____ को किया गया था।

- Ans
- 1. 17 अप्रैल 1952
 - 2. 26 अप्रैल 1950
 - 3. 20 अप्रैल 1951
 - 4. 18 जनवरी 1950

Question Type : MCQ

Question ID : 264330140338

Option 1 ID : 264330549732

Option 2 ID : 264330549734

Option 3 ID : 264330549731

Option 4 ID : 264330549733

Status : Answered

Chosen Option : 2

Q.10 ग्रामीण रोजगार सृजन कार्यक्रम (REGP) सन् _____ में शुरू किया गया था।

- Ans
- 1. 1991
 - 2. 1997
 - 3. 1993
 - 4. 1995

Question Type : MCQ

Question ID : 264330139693

Option 1 ID : 264330547187

Option 2 ID : 264330547190

Option 3 ID : 264330547188

Option 4 ID : 264330547189

Status : Not Answered

Chosen Option : --

Q.11 संभवतः _____ मेहरगढ़ में कपास की खेती होती थी।

- Ans
- 1. 8000 साल पहले
 - 2. 6000 साल पहले
 - 3. 7000 साल पहले
 - 4. 5000 साल पहले

Question Type : MCQ
Question ID : 264330139769
Option 1 ID : 264330547494
Option 2 ID : 264330547492
Option 3 ID : 264330547493
Option 4 ID : 264330547491
Status : Not Answered
Chosen Option : --

Q.12 ज्योतिबा फुले ने निम्नलिखित में से किस संगठन की स्थापना की?

- Ans
- 1. आर्य समाज
 - 2. ब्रह्म समाज
 - 3. सत्यशोधक समाज
 - 4. सतनामी समाज

Question Type : MCQ
Question ID : 264330138994
Option 1 ID : 264330544586
Option 2 ID : 264330544583
Option 3 ID : 264330544585
Option 4 ID : 264330544584
Status : Answered
Chosen Option : 3

Q.13 आदिवासी नेता बिरसा किस जनजाति से संबंधित थे?

- Ans
- 1. भूटिया
 - 2. गोंड
 - 3. भील
 - 4. मुंडा

Question Type : MCQ
Question ID : 264330138995
Option 1 ID : 264330544590
Option 2 ID : 264330544587
Option 3 ID : 264330544588
Option 4 ID : 264330544589
Status : Answered
Chosen Option : 4

Q.14 2020 में 'लूडो' फिल्म में प्रदर्शित प्रसिद्ध गीत "किस्मत की हवा (Qismat Ki Hawa)" के पार्श्व गायक और संगीतकार कौन हैं?

- Ans
- 1. ए. आर. रहमान
 - 2. आर. डी. बर्मन
 - 3. अरिजीत सिंह
 - 4. सी. रामचंद्र

Question Type : MCQ
Question ID : 264330140335
Option 1 ID : 264330549721
Option 2 ID : 264330549719
Option 3 ID : 264330549720
Option 4 ID : 264330549722
Status : Answered
Chosen Option : 2

Q.15 चोल साम्राज्य में "वेट्टी (Vetti)" शब्द _____ से संबंधित है।

- Ans
- 1. जबरन श्रम
 - 2. सेना
 - 3. सोने के सिक्के
 - 4. आंशिक भुगतान

Question Type : MCQ
Question ID : 264330139670
Option 1 ID : 264330547097
Option 2 ID : 264330547098
Option 3 ID : 264330547095
Option 4 ID : 264330547096
Status : Answered
Chosen Option : 3

Q.16 श्री भगवंत मान मार्च 2022 में किस राज्य के मुख्यमंत्री बने थे?

- Ans
- 1. हरियाणा
 - 2. हिमाचल प्रदेश
 - 3. पंजाब
 - 4. दिल्ली

Question Type : MCQ
Question ID : 264330140907
Option 1 ID : 264330551976
Option 2 ID : 264330551978
Option 3 ID : 264330551975
Option 4 ID : 264330551977
Status : Answered
Chosen Option : 3

Q.17 जीव मिलखा सिंह का संबंध किस खेल से है?

- Ans
- 1. एथलेटिक्स
 - 2. क्रिकेट
 - 3. हॉकी
 - 4. गोल्फ़

Question Type : MCQ
Question ID : 264330140885
Option 1 ID : 264330551890
Option 2 ID : 264330551887
Option 3 ID : 264330551889
Option 4 ID : 264330551888
Status : Answered
Chosen Option : 1

Q.18 कौन-सा सागर अफ्रीका को अरब प्रायद्वीप से अलग करता है?

- Ans
- 1. लाल सागर
 - 2. सफ़ेद सागर
 - 3. कैस्पियन सागर
 - 4. काला सागर

Question Type : MCQ
Question ID : 264330140659
Option 1 ID : 264330550984
Option 2 ID : 264330550985
Option 3 ID : 264330550986
Option 4 ID : 264330550983
Status : Answered
Chosen Option : 1

Q.19 निम्नलिखित में से किसे पादप जगत के जलस्थलचर कहा जाता है?

- Ans
- 1. ब्रायोफाइट (Bryophyte)
 - 2. अनावृतबीजी (Gymnosperm)
 - 3. थैलोफाइट (Thallophyte)
 - 4. आवृतबीजी (Angiosperm)

Question Type : MCQ
Question ID : 264330141052
Option 1 ID : 264330552557
Option 2 ID : 264330552558
Option 3 ID : 264330552556
Option 4 ID : 264330552555
Status : Answered
Chosen Option : 1

Q.20 'रूरल बैकयार्ड पिगरी (Rural Backyard Piggery)' योजना किस राज्य सरकार द्वारा शुरू की गई थी?

- Ans
- ✓ 1. मेघालय
 - ✗ 2. पंजाब
 - ✗ 3. झारखंड
 - ✗ 4. असम

Question Type : MCQ

Question ID : 264330140367

Option 1 ID : 264330549849

Option 2 ID : 264330549848

Option 3 ID : 264330549850

Option 4 ID : 264330549847

Status : Answered

Chosen Option : 4

Q.21 यदि किसी देश की जन्म दर मृत्यु दर से अधिक है तो जनसंख्या में _____।

- Ans
- ✓ 1. वृद्धि होगी
 - ✗ 2. 50% की गिरावट होगी
 - ✗ 3. धीरे-धीरे गिरावट आएगी
 - ✗ 4. स्थिरता रहेगी

Question Type : MCQ

Question ID : 264330139718

Option 1 ID : 264330547289

Option 2 ID : 264330547288

Option 3 ID : 264330547287

Option 4 ID : 264330547290

Status : Answered

Chosen Option : 1

Q.22 कुचिपुड़ी नृत्य किस प्रकार के संगीत के साथ किया जाता है?

- Ans
- ✗ 1. सम्मिश्रित (Fusion)
 - ✗ 2. हिंदुस्तानी (Hindustani)
 - ✗ 3. जाज़ (Jazz)
 - ✓ 4. कर्नाटक (Carnatic)

Question Type : MCQ

Question ID : 264330139673

Option 1 ID : 264330547107

Option 2 ID : 264330547108

Option 3 ID : 264330547110

Option 4 ID : 264330547109

Status : Answered

Chosen Option : 4

Q.23 निम्नलिखित में से कौन-सा अम्ल सरसों के तेल में पाया जाता है?

- Ans
- ✗ 1. टार्टरिक अम्ल (Tartaric Acid)
 - ✗ 2. मैलिक अम्ल (Malic Acid)
 - ✓ 3. इरुसिक अम्ल (Erucic Acid)
 - ✗ 4. लॉरिक अम्ल (Lauric Acid)

Question Type : MCQ
Question ID : 264330140938
Option 1 ID : 264330552100
Option 2 ID : 264330552102
Option 3 ID : 264330552099
Option 4 ID : 264330552101
Status : Not Answered
Chosen Option : --

Q.24 भारतीय संविधान का कौन-सा अनुच्छेद सभी धर्मों के लोगों को अपने धर्म के मामलों का प्रबंधन करने की स्वतंत्रता देता है?

- Ans
- ✗ 1. अनुच्छेद 21
 - ✓ 2. अनुच्छेद 26
 - ✗ 3. अनुच्छेद 15
 - ✗ 4. अनुच्छेद 37

Question Type : MCQ
Question ID : 264330140771
Option 1 ID : 264330551434
Option 2 ID : 264330551432
Option 3 ID : 264330551431
Option 4 ID : 264330551433
Status : Answered
Chosen Option : 2

Q.25 "छठ पूजा" पूरे विश्व में मुख्य रूप से किस समुदाय द्वारा बड़ी भव्यता के साथ मनाई जाती है?

- Ans
- ✗ 1. पंजाबी समुदाय
 - ✓ 2. बिहारी समुदाय
 - ✗ 3. मराठी समुदाय
 - ✗ 4. गुजराती समुदाय

Question Type : MCQ
Question ID : 264330139749
Option 1 ID : 264330547412
Option 2 ID : 264330547413
Option 3 ID : 264330547414
Option 4 ID : 264330547411
Status : Answered
Chosen Option : 2

Q.1 Fill in the blank with the most appropriate option.

Ancient Indians were never this _____ minded.

- Ans
- 1. cramp
 - 2. narrow
 - 3. tiny
 - 4. slim

Question Type : MCQ
Question ID : 264330136585
Option 1 ID : 264330535074
Option 2 ID : 264330535072
Option 3 ID : 264330535073
Option 4 ID : 264330535071
Status : Answered
Chosen Option : 2

Q.2 Select the most appropriate option to fill in the blank.

The show played to full houses for a five-night run and ended to _____ applause on Saturday night.

- Ans
- 1. tumultuous
 - 2. barren
 - 3. redress
 - 4. semantic

Question Type : MCQ
Question ID : 264330136560
Option 1 ID : 264330534975
Option 2 ID : 264330534977
Option 3 ID : 264330534976
Option 4 ID : 264330534978
Status : Answered
Chosen Option : 4

Q.3 Select the most appropriate option to substitute the bracketed segment in the given sentence. If there is no need to substitute it, select 'no substitution required'.

He lights his pipe, (and on many an evenings he helps me with) dishes.

- Ans
- 1. and on many evenings he helps me with the
 - 2. No substitution required
 - 3. and many an evenings he helps me with the
 - 4. and on many evenings he helped me with the

Question Type : MCQ
Question ID : 264330136538
Option 1 ID : 264330534891
Option 2 ID : 264330534894
Option 3 ID : 264330534892
Option 4 ID : 264330534893
Status : Answered
Chosen Option : 1

Q.4 Select the word from the options which is similar in meaning to the bracketed word given in the sentence below.
He hesitated, studying her face with a (confused) expression.

- Ans**
- 1. calm
 - 2. assisted
 - 3. puzzled
 - 4. explicated

Question Type : **MCQ**
Question ID : **264330136152**
Option 1 ID : **264330533410**
Option 2 ID : **264330533408**
Option 3 ID : **264330533409**
Option 4 ID : **264330533407**
Status : **Answered**
Chosen Option : **3**

Q.5 Find the part of the given sentence that has an error in it. If there is no error, choose 'No error'.
There are already many examples of great technology that had born in the United States.

- Ans**
- 1. No error
 - 2. born in the United States.
 - 3. of great technology that had
 - 4. There are already many examples

Question Type : **MCQ**
Question ID : **264330135537**
Option 1 ID : **264330531054**
Option 2 ID : **264330531053**
Option 3 ID : **264330531052**
Option 4 ID : **264330531051**
Status : **Answered**
Chosen Option : **2**

Q.6 Select the most appropriate meaning of the given idiom.

Go bananas

- Ans**
- 1. To become excited or angry
 - 2. To finish household chores
 - 3. To win a match
 - 4. To feel low

Question Type : **MCQ**
Question ID : **264330136285**
Option 1 ID : **264330533920**
Option 2 ID : **264330533921**
Option 3 ID : **264330533919**
Option 4 ID : **264330533922**
Status : **Answered**
Chosen Option : **1**

Q.7 Four words are given, out of which three words are spelt correctly. Choose the incorrectly spelt word.

- Ans**
- 1. PERSISTENT
 - 2. RESISTANCE
 - 3. ACQUIANT
 - 4. PRIVILEGE

Question Type : **MCQ**
Question ID : **264330136183**
Option 1 ID : **264330533527**
Option 2 ID : **264330533530**
Option 3 ID : **264330533529**
Option 4 ID : **264330533528**
Status : **Answered**
Chosen Option : **1**

Q.8 Select the most appropriate option to substitute the bracketed segment in the given sentence. If there is no need to substitute it, select 'no substitution required'.

That is not a solution available (to most people for who email has become necessity.)

- Ans**
- 1. to most people for whom email has become a necessity.
 - 2. for most people to whom email has became necessity.
 - 3. No substitution required
 - 4. to most people for who email has become a necessity.

Question Type : **MCQ**
Question ID : **264330136540**
Option 1 ID : **264330534899**
Option 2 ID : **264330534901**
Option 3 ID : **264330534902**
Option 4 ID : **264330534900**
Status : **Answered**
Chosen Option : **1**

Q.9 Select the most appropriate synonym of the given word.

Glorify

- Ans**
- 1. Lower
 - 2. Mock
 - 3. Celebrate
 - 4. Wonder

Question Type : **MCQ**
Question ID : **264330136281**
Option 1 ID : **264330533906**
Option 2 ID : **264330533905**
Option 3 ID : **264330533903**
Option 4 ID : **264330533904**
Status : **Answered**
Chosen Option : **3**

Q.10 Select the most appropriate word for the given group of words.

A person who likes humankind and human society

- Ans
- 1. Lunatic
 - 2. Mercenary
 - 3. Narcissist
 - 4. Philanthropist

Question Type : MCQ
Question ID : 264330135833
Option 1 ID : 264330532202
Option 2 ID : 264330532200
Option 3 ID : 264330532201
Option 4 ID : 264330532199
Status : Answered
Chosen Option : 4

Q.11 Select the most appropriate antonym to substitute the (bracketed) word in the given sentence.

Given (sufficient) effort, all known infectious agents can be specifically identified.

- Ans
- 1. optimal
 - 2. trivial
 - 3. unrefined
 - 4. captivity

Question Type : MCQ
Question ID : 264330135838
Option 1 ID : 264330532222
Option 2 ID : 264330532219
Option 3 ID : 264330532220
Option 4 ID : 264330532221
Status : Answered
Chosen Option : 2

Q.12 Select the most appropriate word for the given group of words.

Opposing or taking arms against a government or ruler.

- Ans
- 1. Volunteer
 - 2. Participant
 - 3. Rebel
 - 4. Rubel

Question Type : MCQ
Question ID : 264330136124
Option 1 ID : 264330533300
Option 2 ID : 264330533301
Option 3 ID : 264330533302
Option 4 ID : 264330533299
Status : Answered
Chosen Option : 3

Q.13 Select the most appropriate antonym of the given word.

Evidence

- Ans
- 1. Duplicity
 - 2. Signature
 - 3. Information
 - 4. Concealment

Question Type : MCQ
Question ID : 264330136428
Option 1 ID : 264330534474
Option 2 ID : 264330534471
Option 3 ID : 264330534473
Option 4 ID : 264330534472
Status : Answered
Chosen Option : 4

Q.14 A sentence has been given with a blank to be filled with an appropriate option. Choose the correct alternative.

Most of the oil and gas that the UK _____ does not come from Russia.

- Ans
- 1. importing
 - 2. imported
 - 3. imports
 - 4. import

Question Type : MCQ
Question ID : 264330135237
Option 1 ID : 264330529872
Option 2 ID : 264330529873
Option 3 ID : 264330529871
Option 4 ID : 264330529874
Status : Answered
Chosen Option : 3

Q.15 Four sentences are given, out of which three have spelling errors. Choose the sentence with all correctly spelled words.

- Ans
- 1. They fly around like nobody 's buisness.
 - 2. They also show problem behaviours, like physical aggression and cheating.
 - 3. This guide offers sugestions of capital interest to travelers.
 - 4. They were meant, she says, to be "a public display of your allegaince."

Question Type : MCQ
Question ID : 264330135738
Option 1 ID : 264330531838
Option 2 ID : 264330531836
Option 3 ID : 264330531835
Option 4 ID : 264330531837
Status : Answered
Chosen Option : 2

Q.16 In the following question, out of the given four alternatives, select the alternative which best expresses the meaning of the Idiom/Phrase.

A storm in a tea cup

- Ans**
- 1. Back to original position
 - 2. Great outrage or excitement about a trivial matter
 - 3. To deal with a person who is more than one's match
 - 4. Constant source of annoyance to someone

Question Type : **MCQ**
Question ID : **264330135556**
Option 1 ID : **264330531123**
Option 2 ID : **264330531126**
Option 3 ID : **264330531125**
Option 4 ID : **264330531124**
Status : **Answered**
Chosen Option : **2**

Q.17 Identify the segment that contains a grammatical error. If there is no error, select 'No error'

Nothing great in the world/ have been accomplished/ without passion.

- Ans**
- 1. No error
 - 2. have been accomplished
 - 3. Nothing great in the world
 - 4. without passion.

Question Type : **MCQ**
Question ID : **264330136187**
Option 1 ID : **264330533546**
Option 2 ID : **264330533544**
Option 3 ID : **264330533543**
Option 4 ID : **264330533545**
Status : **Answered**
Chosen Option : **2**

Q.18 Identify the segment that contains a grammatical error. If there is no error, select 'No error'.

Susan had recently run on to / Catherine at the supermarket, they / were seeing each other after many years.

- Ans**
- 1. were seeing each other after many years.
 - 2. Susan had recently run on to
 - 3. Catherine at the supermarket, they
 - 4. No error

Question Type : **MCQ**
Question ID : **264330136743**
Option 1 ID : **264330535681**
Option 2 ID : **264330535679**
Option 3 ID : **264330535680**
Option 4 ID : **264330535682**
Status : **Answered**
Chosen Option : **2**

Q.19 Select the word segment that substitutes (replaces) the bracketed word segment correctly and completes the sentence meaningfully. Select the option 'no correction required' if the sentence is correct as given.

(They have been) dejected when he arrived, but now they sparkle with enthusiasm.

- Ans**
- 1. They was
 - 2. They had been
 - 3. No correction required
 - 4. They were been

Question Type : **MCQ**
Question ID : **264330136565**
Option 1 ID : **264330534997**
Option 2 ID : **264330534995**
Option 3 ID : **264330534998**
Option 4 ID : **264330534996**
Status : **Answered**
Chosen Option : **2**

Q.20 Select the most appropriate option to fill in the blank.

And to think after all these years you still have the _____ to say such things to me!

- Ans**
- 1. arrogance
 - 2. tangential
 - 3. fitness
 - 4. brightness

Question Type : **MCQ**
Question ID : **264330135825**
Option 1 ID : **264330532172**
Option 2 ID : **264330532171**
Option 3 ID : **264330532173**
Option 4 ID : **264330532174**
Status : **Answered**
Chosen Option : **1**

Comprehension:

In the following passage some words have been deleted. Fill in the blanks with the help of the alternatives given. Select the most appropriate option for each number.

Equality and freedom have both been identified as important (1) _____ of democracy since ancient times. These principles are reflected in all citizens being (2) _____ before the law and having equal access to (3) _____ processes. For example, in a representative democracy, (4) _____ vote has equal weight, no unreasonable restrictions can apply to anyone seeking to become a (5) _____, and the freedom of its citizens is secured by legitimized rights and liberties which are generally protected by a constitution.

SubQuestion No : 21

Q.21 Select the most appropriate option to fill in blank number 1.

Ans ✓ 1. characteristics

✗ 2. analytics

✗ 3. linguistics

✗ 4. statistics

Question Type : **MCQ**

Question ID : **264330136492**

Option 1 ID : **264330534712**

Option 2 ID : **264330534711**

Option 3 ID : **264330534714**

Option 4 ID : **264330534713**

Status : **Answered**

Chosen Option : 1

Comprehension:

In the following passage some words have been deleted. Fill in the blanks with the help of the alternatives given. Select the most appropriate option for each number.

Equality and freedom have both been identified as important (1) _____ of democracy since ancient times. These principles are reflected in all citizens being (2) _____ before the law and having equal access to (3) _____ processes. For example, in a representative democracy, (4) _____ vote has equal weight, no unreasonable restrictions can apply to anyone seeking to become a (5) _____, and the freedom of its citizens is secured by legitimized rights and liberties which are generally protected by a constitution.

SubQuestion No : 22

Q.22 Select the most appropriate option to fill in blank number 2.

Ans ✗ 1. unfair

✓ 2. equal

✗ 3. irregular

✗ 4. unequal

Question Type : **MCQ**

Question ID : **264330136493**

Option 1 ID : **264330534715**

Option 2 ID : **264330534718**

Option 3 ID : **264330534717**

Option 4 ID : **264330534716**

Status : **Answered**

Chosen Option : 2

Comprehension:

In the following passage some words have been deleted. Fill in the blanks with the help of the alternatives given. Select the most appropriate option for each number.

Equality and freedom have both been identified as important (1) _____ of democracy since ancient times. These principles are reflected in all citizens being (2) _____ before the law and having equal access to (3) _____ processes. For example, in a representative democracy, (4) _____ vote has equal weight, no unreasonable restrictions can apply to anyone seeking to become a (5) _____, and the freedom of its citizens is secured by legitimized rights and liberties which are generally protected by a constitution.

SubQuestion No : 23

Q.23 Select the most appropriate option to fill in blank number 3.

- Ans**
- 1. relative
 - 2. copulative
 - 3. legislative
 - 4. perennial

Question Type : **MCQ**

Question ID : **264330136494**

Option 1 ID : **264330534720**

Option 2 ID : **264330534721**

Option 3 ID : **264330534719**

Option 4 ID : **264330534722**

Status : **Answered**

Chosen Option : **3**

Comprehension:

In the following passage some words have been deleted. Fill in the blanks with the help of the alternatives given. Select the most appropriate option for each number.

Equality and freedom have both been identified as important (1) _____ of democracy since ancient times. These principles are reflected in all citizens being (2) _____ before the law and having equal access to (3) _____ processes. For example, in a representative democracy, (4) _____ vote has equal weight, no unreasonable restrictions can apply to anyone seeking to become a (5) _____, and the freedom of its citizens is secured by legitimized rights and liberties which are generally protected by a constitution.

SubQuestion No : 24

Q.24 Select the most appropriate option to fill in blank number 4.

- Ans**
- 1. much
 - 2. every
 - 3. all
 - 4. few

Question Type : **MCQ**

Question ID : **264330136495**

Option 1 ID : **264330534723**

Option 2 ID : **264330534726**

Option 3 ID : **264330534725**

Option 4 ID : **264330534724**

Status : **Answered**

Chosen Option : **2**

Comprehension:

In the following passage some words have been deleted. Fill in the blanks with the help of the alternatives given. Select the most appropriate option for each number.

Equality and freedom have both been identified as important (1) _____ of democracy since ancient times. These principles are reflected in all citizens being (2) _____ before the law and having equal access to (3) _____ processes. For example, in a representative democracy, (4) _____ vote has equal weight, no unreasonable restrictions can apply to anyone seeking to become a (5) _____, and the freedom of its citizens is secured by legitimized rights and liberties which are generally protected by a constitution.

SubQuestion No : 25

Q.25 Select the most appropriate option to fill in blank number 5.

- Ans**
- 1. dictators
 - 2. representative
 - 3. rulers
 - 4. peasants

Question Type : **MCQ**

Question ID : **264330136496**

Option 1 ID : **264330534727**

Option 2 ID : **264330534728**

Option 3 ID : **264330534729**

Option 4 ID : **264330534730**

Status : **Answered**

Chosen Option : **2**

Multi Tasking Non Technical Staff and Havaladar CBIC and CBN Examination 2022

Roll Number	KD Job Updates
Candidate Name	KD Job Updates
Venue Name	iON Digital Zone iDZ Naino Ka Bas
Exam Date	15/06/2023
Exam Time	9:00 AM - 10:30 AM
Subject	MTS Non Tech Havaladar CBIC and CBN Examination 2022

Section : Numerical and Mathematical Ability

Q.1 $\frac{1.2 \times 1.2 + 0.2 \times 0.2 + 1.2 \times 0.4}{1.8 \times 1.8 + 0.4 \times 0.4 - 1.8 \times 0.8}$ का मान क्या है?

- Ans
- 1. 0.25
 - 2. 0.2
 - 3. 1
 - 4. 0.1

Question Type : MCQ

Question ID : 264330140648

Option 1 ID : 264330550942

Option 2 ID : 264330550941

Option 3 ID : 264330550940

Option 4 ID : 264330550939

Status : Answered

Chosen Option : 3

Q.2 एक वस्तु को Rs. 400 में बेचने पर उतना ही लाभ होता है जितनी उसे Rs. 300 में बेचने पर हानि होती है। उस वस्तु का क्रय मूल्य कितना है?

- Ans
- 1. Rs. 400
 - 2. Rs. 250
 - 3. Rs. 350
 - 4. Rs. 450

Question Type : MCQ

Question ID : 264330140783

Option 1 ID : 264330551481

Option 2 ID : 264330551479

Option 3 ID : 264330551480

Option 4 ID : 264330551482

Status : Answered

Chosen Option : 3

Q.3 P, Q और R के वेतन का अनुपात 5 : 6 : 8 है। यदि R को Q से Rs.2200 अधिक मिलते हैं, तो P का वेतन कितना है?

- Ans
- 1. Rs.6500
 - 2. Rs.5500
 - 3. Rs.7700
 - 4. Rs.7000

Question Type : MCQ

Question ID : 264330139919

Option 1 ID : 264330548055

Option 2 ID : 264330548056

Option 3 ID : 264330548058

Option 4 ID : 264330548057

Status : Answered

Chosen Option : 2

Q.4 एक वस्तु का विक्रय मूल्य Rs.817 है। यदि हानि प्रतिशत 14 प्रतिशत है, तो वस्तु का क्रय मूल्य क्या है?

- Ans
- 1. Rs. 900
 - 2. Rs. 950
 - 3. Rs. 850
 - 4. Rs. 880

Question Type : MCQ

Question ID : 264330139614

Option 1 ID : 264330546871

Option 2 ID : 264330546872

Option 3 ID : 264330546874

Option 4 ID : 264330546873

Status : Answered

Chosen Option : 2

Q.5 अंकित मूल्य का 25 प्रतिशत क्रय मूल्य के 40 प्रतिशत के बराबर है। यदि कोई बट्टा नहीं दिया जाता है, तो लाभ प्रतिशत क्या होगा?

- Ans
- 1. 40 प्रतिशत
 - 2. 66.66 प्रतिशत
 - 3. 50 प्रतिशत
 - 4. 60 प्रतिशत

Question Type : MCQ

Question ID : 264330139600

Option 1 ID : 264330546817

Option 2 ID : 264330546818

Option 3 ID : 264330546815

Option 4 ID : 264330546816

Status : Answered

Chosen Option : 4

Q.6 8 km/hr की चाल से चलते हुए, एक आदमी एक निश्चित दूरी 2 घंटे 30 मिनट में तय करता है। 10 km/hr की चाल से दौड़ते हुए, समान दूरी तय करने में उसे कितना समय लगेगा?

- Ans
- ✗ 1. 2 घंटे 10 मिनट
 - ✗ 2. 1 घंटा 45 मिनट
 - ✗ 3. 1 घंटा
 - ✓ 4. 2 घंटे

Question Type : MCQ

Question ID : 264330139049

Option 1 ID : 264330544803

Option 2 ID : 264330544806

Option 3 ID : 264330544805

Option 4 ID : 264330544804

Status : Answered

Chosen Option : 4

Q.7 नीचे दी गई तालिका में पाँच वस्तुओं की माँग और उत्पादन को दर्शाया गया है।

वस्तुएँ	माँग	उत्पादन
A	175	225
B	200	300
C	100	250
D	50	400
E	400	500

J_1 = A, B और C की कुल माँग और कुल उत्पादन के बीच का अंतर।

J_2 = E की माँग और उत्पादन के औसत का मान।

$(J_1 - J_2)$ का मान क्या है?

- Ans
- ✓ 1. -150
 - ✗ 2. 100
 - ✗ 3. -100
 - ✗ 4. 150

Question Type : MCQ

Question ID : 264330140649

Option 1 ID : 264330550946

Option 2 ID : 264330550945

Option 3 ID : 264330550943

Option 4 ID : 264330550944

Status : Answered

Chosen Option : 1

Q.8 आधार 7 cm और संगत ऊँचाई 12 cm वाले त्रिभुज का क्षेत्रफल ज्ञात कीजिए।

- Ans
- ✗ 1. 43 cm^2
 - ✓ 2. 42 cm^2
 - ✗ 3. 44 cm^2
 - ✗ 4. 54 cm^2

Question Type : MCQ

Question ID : 264330140818

Option 1 ID : 264330551619

Option 2 ID : 264330551620

Option 3 ID : 264330551622

Option 4 ID : 264330551621

Status : Answered

Chosen Option : 2

Q.9 पाइप P अकेले एक टंकी को 18 घंटे में भर सकता है और पाइप Q अकेले उसी टंकी को 24 घंटे में भर सकता है। यदि दोनों पाइपों को बारी-बारी हर एक घंटे में खोला जाए और पहले घंटे के लिए पाइप Q को खोला जाए, तो टंकी कितने समय में पूरी भर जाएगी?

- Ans
- ✓ 1. $(62/3)$ घंटे
 - ✗ 2. $(78/5)$ घंटे
 - ✗ 3. 20 घंटे
 - ✗ 4. $(64/5)$ घंटे

Question Type : MCQ

Question ID : 264330140214

Option 1 ID : 264330549235

Option 2 ID : 264330549238

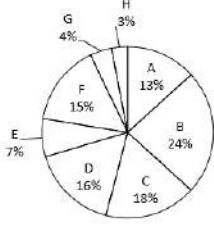
Option 3 ID : 264330549236

Option 4 ID : 264330549237

Status : Answered

Chosen Option : 1

Q.10 नीचे दिए गए वृत्त आलेख में 8 अलग-अलग कंपनियों द्वारा बेची गई कारों की संख्या को दर्शाया गया है। इन सभी 8 कंपनियों द्वारा बेची गई कारों की कुल संख्या 1000 है। इनमें से किसी एक विशिष्ट कंपनी द्वारा बेची गई कारों की संख्या को इन सभी 8 कंपनियों द्वारा बेची गई कारों की कुल संख्या के प्रतिशत के रूप में दर्शाया गया है।



वृत्तखंड A, B और C द्वारा मिलकर बनाए गए केंद्रीय कोण और वृत्तखंड E, F और G द्वारा मिलकर बनाए गए केंद्रीय कोण के बीच कितना अंतर है?

- Ans
- 1. 102.6°
 - 2. 88.4°
 - 3. 72.8°
 - 4. 104.4°

Question Type : MCQ

Question ID : 264330139970

Option 1 ID : 264330548260

Option 2 ID : 264330548259

Option 3 ID : 264330548262

Option 4 ID : 264330548261

Status : Answered

Chosen Option : 3

Q.11 12 दिनों तक अकेले कार्य करने के बाद, रीना को पता चलता है कि केवल 10 प्रतिशत कार्य ही पूरा हुआ है। वह प्रिया को नियुक्त करती है जो रीना से 40 प्रतिशत अधिक कुशल है। उनको साथ मिलकर शेष कार्य को पूरा करने के लिए कितने दिन और लगेंगे?

- Ans
- 1. 50 दिन
 - 2. 45 दिन
 - 3. 40 दिन
 - 4. 30 दिन

Question Type : MCQ

Question ID : 264330139932

Option 1 ID : 264330548108

Option 2 ID : 264330548109

Option 3 ID : 264330548110

Option 4 ID : 264330548107

Status : Answered

Chosen Option : 2

Q.12 साधारण ब्याज पर 3 वर्ष में Rs.1500 की धनराशि Rs.2175 हो जाती है। यदि ब्याज दर में 3 प्रतिशत की वृद्धि कर दी जाए, तो नई धनराशि क्या होगी?

- Ans
- ✓ 1. Rs.2310
 - ✗ 2. Rs.2460
 - ✗ 3. Rs.2050
 - ✗ 4. Rs.2250

Question Type : MCQ

Question ID : 264330139599

Option 1 ID : 264330546812

Option 2 ID : 264330546813

Option 3 ID : 264330546814

Option 4 ID : 264330546811

Status : Answered

Chosen Option : 1

Q.13 $\frac{25 \times 25 - 12 \times 12 + 13 \times 13}{12 \times 5 + 10 \div 2}$ का मान क्या है?

- Ans
- ✓ 1. 10
 - ✗ 2. 13
 - ✗ 3. 5
 - ✗ 4. 65

Question Type : MCQ

Question ID : 264330140169

Option 1 ID : 264330549056

Option 2 ID : 264330549057

Option 3 ID : 264330549055

Option 4 ID : 264330549058

Status : Answered

Chosen Option : 1

Q.14 किसी राशि पर प्राप्त 20 वर्षों का साधारण ब्याज उस राशि का $\frac{3}{5}$ है। वार्षिक ब्याज दर क्या है?

- Ans
- ✗ 1. 6 प्रतिशत
 - ✗ 2. 5 प्रतिशत
 - ✗ 3. 4 प्रतिशत
 - ✓ 4. 3 प्रतिशत

Question Type : MCQ

Question ID : 264330140223

Option 1 ID : 264330549273

Option 2 ID : 264330549274

Option 3 ID : 264330549272

Option 4 ID : 264330549271

Status : Answered

Chosen Option : 4

Q.15 एक ठोस धात्विक गोले की त्रिज्या 35 cm है। यदि इसे पिघलाकर 5 cm त्रिज्या के छोटे-छोटे गोले बनाए जाएँ, तो कितने छोटे गोले बनेंगे?

- Ans 1. 343
 2. 289
 3. 429
 4. 369

Question Type : MCQ
Question ID : 264330140226
Option 1 ID : 264330549284
Option 2 ID : 264330549283
Option 3 ID : 264330549286
Option 4 ID : 264330549285
Status : Answered
Chosen Option : 1

Q.16 एक व्यक्ति पहले 26 km की दूरी 60 मिनट में और अगले 34 km की दूरी 30 मिनट में तय करता है। पूरी यात्रा में उसकी औसत चाल क्या है?

- Ans 1. 40 km/hr
 2. 46 km/hr
 3. 32 km/hr
 4. 38 km/hr

Question Type : MCQ
Question ID : 264330140537
Option 1 ID : 264330550504
Option 2 ID : 264330550505
Option 3 ID : 264330550506
Option 4 ID : 264330550503
Status : Answered
Chosen Option : 1

Q.17 यदि किसी संख्या के 80 प्रतिशत का $\frac{3}{5}$ भाग 450 है, तो वह संख्या क्या है?

- Ans 1. 810.8
 2. 925.5
 3. 945.8
 4. 937.5

Question Type : MCQ
Question ID : 264330140178
Option 1 ID : 264330549094
Option 2 ID : 264330549091
Option 3 ID : 264330549093
Option 4 ID : 264330549092
Status : Answered
Chosen Option : 4

Q.18 समान धारिता (क्षमता) की तीन बोतलों में दूध और पानी के मिश्रण का अनुपात क्रमशः 4:1, 4:3 और 1:2 है। इन तीनों बोतलों को एक बड़ी बोतल में खाली किया जाता है। बड़ी बोतल में क्रमशः दूध और पानी का अनुपात क्या होगा?

- Ans 1. 179 : 136
 2. 152 : 165
 3. 198 : 175
 4. 133 : 145

Question Type : **MCQ**

Question ID : **264330140572**

Option 1 ID : **264330550640**

Option 2 ID : **264330550639**

Option 3 ID : **264330550641**

Option 4 ID : **264330550642**

Status : **Answered**

Chosen Option : **1**

Q.19 एक द्रव में 20% अम्ल है और दूसरे द्रव में 30% अम्ल है। एक कुप्पी को पहले द्रव के 7 भाग और दूसरे द्रव के 3 भाग से भरा जाता है। नए मिश्रण में अम्ल का प्रतिशत है:

- Ans 1. 23%
 2. 14%
 3. 30%
 4. 13%

Question Type : **MCQ**

Question ID : **264330138703**

Option 1 ID : **264330543420**

Option 2 ID : **264330543419**

Option 3 ID : **264330543422**

Option 4 ID : **264330543421**

Status : **Answered**

Chosen Option : **1**

Q.20 एक कक्षा में छात्रों की न्यूनतम संख्या कितनी होनी चाहिए जिससे वे 10, 15 और 20 की पंक्तियाँ बना सकें और छात्रों की कुल संख्या एक पूर्ण वर्ग हो?

- Ans 1. 6400
 2. 900
 3. 1600
 4. 1800

Question Type : **MCQ**

Question ID : **264330139926**

Option 1 ID : **264330548086**

Option 2 ID : **264330548085**

Option 3 ID : **264330548084**

Option 4 ID : **264330548083**

Status : **Answered**

Chosen Option : **2**

Q.1 उस विकल्प को चुनिए जो तीसरी संख्या से ठीक उसी तरह संबंधित है जिस तरह दूसरी संख्या पहली संख्या से संबंधित है।

57 : 286 :: 43 : ?

- Ans
- 1. 206
 - 2. 215
 - 3. 217
 - 4. 216

Question Type : MCQ

Question ID : 264330140485

Option 1 ID : 264330550320

Option 2 ID : 264330550322

Option 3 ID : 264330550321

Option 4 ID : 264330550319

Status : Answered

Chosen Option : 4

Q.2 एक निश्चित कूट भाषा में, 'APPALL' को 'JLYPNA' लिखा जाता है। उस कूट भाषा में 'APPEND' को कैसे लिखा जाएगा?

- Ans
- 1. BNC PNA
 - 2. BCNPNA
 - 3. BNC PAN
 - 4. BCNNPA

Question Type : MCQ

Question ID : 264330140961

Option 1 ID : 264330552193

Option 2 ID : 264330552192

Option 3 ID : 264330552194

Option 4 ID : 264330552191

Status : Answered

Chosen Option : 1

Q.3 दी गई श्रृंखला में निम्नलिखित में से कौन-सी संख्या प्रश्न चिन्ह (?) के स्थान पर आएगी?
63, 64, 60, 69, 53, ?

- Ans
- 1. 78
 - 2. 77
 - 3. 76
 - 4. 88

Question Type : MCQ

Question ID : 264330140045

Option 1 ID : 264330548561

Option 2 ID : 264330548559

Option 3 ID : 264330548560

Option 4 ID : 264330548562

Status : Answered

Chosen Option : 1

Q.4 एक श्रृंखला दी गई है जिसमें एक पद लुप्त है। दिए गए विकल्पों में से उस सही विकल्प को चुनिए जो श्रृंखला को पूरा करेगा ।

CAB, DDG, EGL, FJQ, ?

- Ans**
- 1. GMU
 - 2. GNV
 - 3. GMV
 - 4. GNU

Question Type : **MCQ**

Question ID : **264330140053**

Option 1 ID : **264330548594**

Option 2 ID : **264330548591**

Option 3 ID : **264330548593**

Option 4 ID : **264330548592**

Status : **Answered**

Chosen Option : **3**

Q.5 निम्नलिखित प्रश्न में कुछ कथन दिए गए हैं और उन कथनों के आधार पर कुछ निष्कर्ष दिए गए हैं। आपको मानना है कि दिए गए कथन सत्य हैं चाहे वे समान्यतः जात तथ्यों से अलग प्रतीत होते हों। सभी निष्कर्षों को पढ़िए और फिर निश्चय कीजिए कि दिए गए निष्कर्षों में से कौन-सा निष्कर्ष तार्किक रूप से दिए गए कथनों के अनुसार है।

कथन:

- I. कुछ लड़के, मनुष्य हैं।
- II. सभी मनुष्य, कठोर हैं।

निष्कर्ष:

- I. कुछ कठोर, लड़के नहीं हैं।
- II. कुछ मनुष्य, लड़के नहीं हैं।
- III. कोई कठोर, मनुष्य नहीं है।

- Ans**
- 1. दोनों निष्कर्ष II और III कथनों के अनुसार हैं
 - 2. दोनों निष्कर्ष I और III कथनों के अनुसार हैं
 - 3. केवल निष्कर्ष I कथनों के अनुसार है
 - 4. कोई भी निष्कर्ष कथनों के अनुसार नहीं है

Question Type : **MCQ**

Question ID : **264330140063**

Option 1 ID : **264330548632**

Option 2 ID : **264330548633**

Option 3 ID : **264330548631**

Option 4 ID : **264330548634**

Status : **Answered**

Chosen Option : **4**

Q.6 दो कथन दिए गए हैं और दो निष्कर्ष I और II दिए गए हैं। कथनों को सत्य मानते हुए, चाहे वे सामान्यतः ज्ञात तथ्यों से अलग प्रतीत होते हों, निश्चय कीजिए कि कौन-सा निष्कर्ष ताकिक रूप से कथनों के अनुसार है।
कथन:
सभी नीले, पीले हैं।
सभी पीले, लाल हैं।
निष्कर्ष:
I. कुछ नीले, लाल हैं।
II. सभी लाल, पीले हैं।

- Ans**
- 1. दोनों निष्कर्ष I और II कथनों के अनुसार हैं
 - 2. निष्कर्ष I और II में से कोई भी कथनों के अनुसार नहीं है
 - 3. सिर्फ निष्कर्ष II कथनों के अनुसार है
 - 4. सिर्फ निष्कर्ष I कथनों के अनुसार है

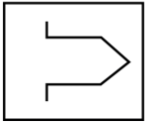
Question Type : **MCQ**
Question ID : **264330138776**
Option 1 ID : **264330543713**
Option 2 ID : **264330543714**
Option 3 ID : **264330543712**
Option 4 ID : **264330543711**
Status : **Answered**
Chosen Option : **4**

Q.7 आठ मित्र अनिल, कमल, राम, संजय, आकाश, विवेक, राहुल और रामू एक वृत्ताकार मेज के चारों ओर केंद्र की ओर मुख करके बैठे हैं (परंतु जरूरी नहीं कि वे इसी क्रम में बैठें हों)। विवेक, अनिल के दाईं ओर से दूसरे स्थान पर है। कमल, अनिल के बाईं ओर से तीसरे स्थान पर है। रामू, विवेक के दाईं ओर से दूसरे स्थान पर है। राम, रामू के दाईं ओर से दूसरे स्थान पर है। आकाश, राहुल के दाईं ओर से दूसरे स्थान पर है। राहुल, विवेक का निकटतम पड़ोसी नहीं है। आकाश के दाईं ओर से तीसरे स्थान पर कौन है?

- Ans**
- 1. राम
 - 2. विवेक
 - 3. कमल
 - 4. रामू

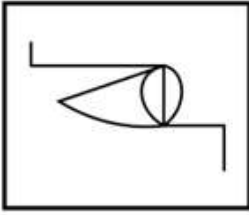
Question Type : **MCQ**
Question ID : **264330139574**
Option 1 ID : **264330546711**
Option 2 ID : **264330546714**
Option 3 ID : **264330546713**
Option 4 ID : **264330546712**
Status : **Answered**
Chosen Option : **4**

Q.8 उस विकल्प आकृति को चुनिए जिसमें दी गई आकृति उसके भाग के रूप में निहित है (पूर्ण की अनुमति नहीं है)।

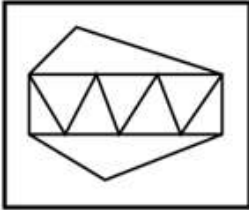


Ans

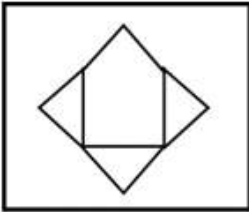
✗ 1.



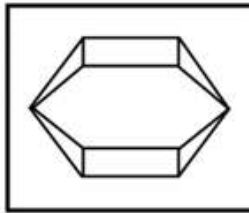
✗ 2.



✗ 3.



✓ 4.



Question Type : MCQ

Question ID : 264330140090

Option 1 ID : 264330548739

Option 2 ID : 264330548740

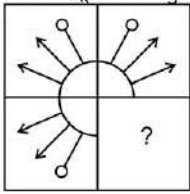
Option 3 ID : 264330548742

Option 4 ID : 264330548741

Status : Answered

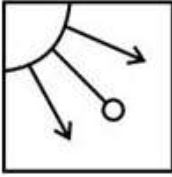
Chosen Option : 4

Q.9 उस विकल्प आकृति को चुनिए जो नीचे दी गई आकृति में पैटर्न को पूरा करने के लिए प्रश्न चिन्ह (?) के स्थान पर आएगी। (घूर्णन की अनुमति नहीं है)

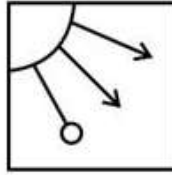


Ans

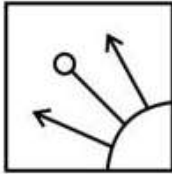
✗ 1.



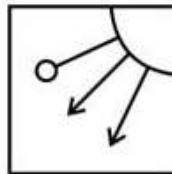
✓ 2.



✗ 3.



✗ 4.



Question Type : **MCQ**

Question ID : **264330135367**

Option 1 ID : **264330530376**

Option 2 ID : **264330530377**

Option 3 ID : **264330530375**

Option 4 ID : **264330530378**

Status : **Answered**

Chosen Option : **2**

Q.10 उस विकल्प को चुनिए जिसमें समुच्चय की संख्याएँ वही संबंध साझा करती हैं जो दिए गए समुच्चय में संख्याओं द्वारा साझा किया जाता है। (ध्यान दें: संख्याओं को उनके घटक अंकों में अलग-अलग किए बिना, पूर्ण संख्याओं पर संक्रियाएँ की जानी चाहिए। उदा. 13 - 13 पर संक्रियाएँ जैसे 13 को जोड़ना /घटाना /गुणा करना आदि किया जा सकता है। 13 को 1 और 3 में अलग-अलग करने की और फिर 1 और 3 पर गणितीय संक्रियाएँ करने की अनुमति नहीं है)

(4, 1, 25)

(8, 5, 169)

- Ans
- 1. (2, 7, 100)
 - 2. (4, 9, 144)
 - 3. (10, 8, 361)
 - 4. (5, 9, 196)

Question Type : MCQ

Question ID : 264330140990

Option 1 ID : 264330552307

Option 2 ID : 264330552308

Option 3 ID : 264330552310

Option 4 ID : 264330552309

Status : Answered

Chosen Option : 4

Q.11 दिए गए दो चिन्हों और दो संख्याओं को आपस में बदलने पर दिए गए समीकरण का मान क्या होगा?

+ और \times , 7 और 4 ; $7 \div 6 + 4 - 3 \times 1$

- Ans
- 1. 35
 - 2. 20
 - 3. 28
 - 4. 50

Question Type : MCQ

Question ID : 264330140991

Option 1 ID : 264330552313

Option 2 ID : 264330552312

Option 3 ID : 264330552311

Option 4 ID : 264330552314

Status : Answered

Chosen Option : 3

Q.12 पाँच सहेलियों परिणीता, नाइरा, रिंकी, सृष्टि और टीना में, टीना केवल तीन अन्य सहेलियों से लंबी है। रिंकी सभी सहेलियों में सबसे लंबी है। नाइरा केवल एक सहेली से लंबी है। केवल दो सहेलियाँ परिणीता से लंबी हैं। सभी सहेलियों में किसका कद सबसे छोटा है?

- Ans
- 1. टीना
 - 2. परिणीता
 - 3. सृष्टि
 - 4. नाइरा

Question Type : MCQ

Question ID : 264330140440

Option 1 ID : 264330550141

Option 2 ID : 264330550139

Option 3 ID : 264330550142

Option 4 ID : 264330550140

Status : Answered

Chosen Option : 3

Q.13 (::) के दाईं ओर दिए गए शब्द आपस में किसी तर्क/नियम/संबंध द्वारा संबंधित हैं। समान तर्क/नियम/संबंध के आधार पर दिए गए विकल्पों में से (::) के दाईं ओर लुप्त शब्द/शब्द युग्म को चुनिए।

फसल : किसान :: किताब : ?

- Ans
- ✓ 1. लेखक
 - ✗ 2. नाटककार
 - ✗ 3. कागज़
 - ✗ 4. पढ़ना

Question Type : MCQ
Question ID : 264330140957
Option 1 ID : 264330552175
Option 2 ID : 264330552176
Option 3 ID : 264330552178
Option 4 ID : 264330552177
Status : Answered
Chosen Option : 1

Q.14 एक निश्चित कूट भाषा में, 'LUCK' को 'HQYG' लिखा जाता है। उस कूट भाषा में 'MATH' को कैसे लिखा जाएगा?

- Ans
- ✓ 1. IWPD
 - ✗ 2. IWPE
 - ✗ 3. IWQD
 - ✗ 4. IWPC

Question Type : MCQ
Question ID : 264330139974
Option 1 ID : 264330548275
Option 2 ID : 264330548278
Option 3 ID : 264330548277
Option 4 ID : 264330548276
Status : Answered
Chosen Option : 1

Q.15 सात लड़कियाँ A, B, C, D, E, F और G एक वृत्ताकार मेज के चारों ओर केंद्र से विपरीत दिशा की ओर मुख करके बैठी हैं (परंतु जरूरी नहीं कि वे इसी क्रम में बैठी हों)। D, G के दाईं ओर से दूसरे स्थान पर है। G, C के दाईं ओर से तीसरे स्थान पर है। F, B के दाईं ओर से तीसरे स्थान पर है। A, C की निकटतम पड़ोसी नहीं है। E, C की निकटतम पड़ोसी है। A के दाईं ओर से दूसरे स्थान पर कौन बैठा है?

- Ans
- ✓ 1. F
 - ✗ 2. G
 - ✗ 3. C
 - ✗ 4. E

Question Type : MCQ
Question ID : 264330139555
Option 1 ID : 264330546637
Option 2 ID : 264330546636
Option 3 ID : 264330546635
Option 4 ID : 264330546638
Status : Answered
Chosen Option : 1

Q.16 एक निश्चित कूट भाषा में, 'FUNNY' को 'LATTE' लिखा जाता है और 'DRIVE' को 'JXOBK' लिखा जाता है। उस कूट भाषा में 'CLASS' को कैसे लिखा जाएगा?

- Ans
- 1. IRHYY
 - 2. IRGZZ
 - 3. IRGY Y
 - 4. IRGXX

Question Type : MCQ

Question ID : 264330140456

Option 1 ID : 264330550206

Option 2 ID : 264330550205

Option 3 ID : 264330550204

Option 4 ID : 264330550203

Status : Answered

Chosen Option : 1

Q.17 दिए गए समीकरण को सही करने के लिए किन दो संख्याओं को आपस में बदला जाना चाहिए?
 $108 \div 6 - 18 + 8 \times 9 = 42$

- Ans
- 1. 18 और 9
 - 2. 6 और 8
 - 3. 9 और 6
 - 4. 108 और 18

Question Type : MCQ

Question ID : 264330140129

Option 1 ID : 264330548897

Option 2 ID : 264330548896

Option 3 ID : 264330548898

Option 4 ID : 264330548895

Status : Answered

Chosen Option : 3

Q.18 दी गई श्रृंखला में निम्नलिखित में से कौन-सी संख्या प्रश्न चिन्ह (?) के स्थान पर आएगी?
8, 24, 40, 56, 72, 88, 104, ?

- Ans
- 1. 320
 - 2. 120
 - 3. 420
 - 4. 220

Question Type : MCQ

Question ID : 264330140002

Option 1 ID : 264330548387

Option 2 ID : 264330548390

Option 3 ID : 264330548388

Option 4 ID : 264330548389

Status : Answered

Chosen Option : 2

Q.19 उस विकल्प को चुनिए जो तीसरे शब्द से ठीक उसी तरह संबंधित है जिस तरह दूसरा शब्द पहले शब्द से संबंधित है।
स्वीकारना : नकारना :: नफ़रत करना : ?

- Ans**
- 1. उपेक्षा करना
 - 2. घृणा करना
 - 3. आलोचना करना
 - 4. बहुत प्रेम करना

Question Type : **MCQ**

Question ID : **264330140394**

Option 1 ID : **264330549958**

Option 2 ID : **264330549955**

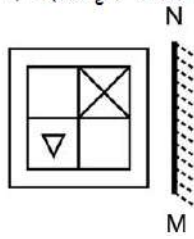
Option 3 ID : **264330549957**

Option 4 ID : **264330549956**

Status : **Answered**

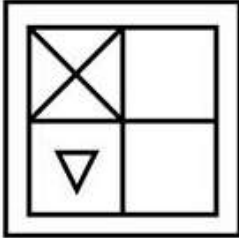
Chosen Option : **4**

Q.20 दी गई आकृति के उस सही दर्पण प्रतिबिंब को चुनिए, जो दर्पण को आकृति के दाईं ओर रखने पर बनेगा।

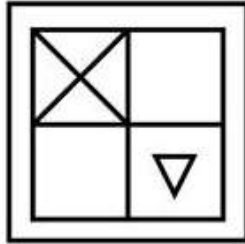


Ans

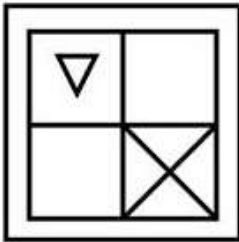
✗ 1.



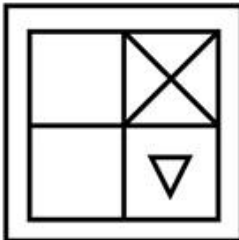
✓ 2.



✗ 3.



✗ 4.



Question Type : MCQ

Question ID : 264330140151

Option 1 ID : 264330548985

Option 2 ID : 264330548984

Option 3 ID : 264330548983

Option 4 ID : 264330548986

Status : Answered

Chosen Option : 2

Q.1 किस भारतीय संगीतकार को अपने एल्बम 'डिवाइन टाइड्स (Divine Tides)' के लिए वर्ष 2022 में दूसरा ग्रैमी पुरस्कार मिला था?

- Ans
- 1. तन्वी शाह (Tanvi Shah)
 - 2. मनोज जॉर्ज (Manoj George)
 - 3. रिकी केज (Ricky Kej)
 - 4. पी. ए. दीपक (P. A. Deepak)

Question Type : MCQ
Question ID : 264330140385
Option 1 ID : 264330549921
Option 2 ID : 264330549922
Option 3 ID : 264330549920
Option 4 ID : 264330549919
Status : Answered
Chosen Option : 3

Q.2 _____ वे वाहिकाएँ हैं जो रक्त को हृदय से दूर शरीर के विभिन्न भागों तक ले जाती हैं।

- Ans
- 1. प्लाज्मा
 - 2. शिराएँ
 - 3. श्वासनली
 - 4. धमनियाँ

Question Type : MCQ
Question ID : 264330138960
Option 1 ID : 264330544448
Option 2 ID : 264330544449
Option 3 ID : 264330544450
Option 4 ID : 264330544447
Status : Answered
Chosen Option : 4

Q.3 निम्नलिखित में से किस राज्य के मुख्यमंत्री ने नवंबर 2022 में लाडली लक्ष्मी योजना 2.0 (Ladli Laxmi Scheme 2.0) के दूसरे चरण का शुभारंभ किया?

- Ans
- 1. मध्यप्रदेश
 - 2. बिहार
 - 3. आंध्रप्रदेश
 - 4. उत्तरप्रदेश

Question Type : MCQ
Question ID : 264330141046
Option 1 ID : 264330552531
Option 2 ID : 264330552534
Option 3 ID : 264330552532
Option 4 ID : 264330552533
Status : Answered
Chosen Option : 1

Q.4 2022 तक, निम्नलिखित में से कौन-सा देश भारतीय लौह अयस्क का सबसे बड़ा आयातक (importer) है?

Ans 1. रूस

2. संयुक्त राज्य अमेरिका

3. फ्रांस

4. चीन

Question Type : MCQ

Question ID : 264330140760

Option 1 ID : 264330551390

Option 2 ID : 264330551387

Option 3 ID : 264330551389

Option 4 ID : 264330551388

Status : Answered

Chosen Option : 1

Q.5 'गोल्डन गर्ल (Golden Girl)' _____ की आत्मकथा है।

Ans 1. साइना नेहवाल

2. पी.टी. उषा

3. दिव्या दत्ता

4. नीना गुप्ता

Question Type : MCQ

Question ID : 264330140272

Option 1 ID : 264330549470

Option 2 ID : 264330549468

Option 3 ID : 264330549467

Option 4 ID : 264330549469

Status : Answered

Chosen Option : 3

Q.6 भारतीय उपमहाद्वीप में, कितने देश उपमहाद्वीप के प्रत्येक सदस्य देश के साथ अपनी भूमि सीमाएँ साझा करते हैं?

Ans 1. दो

2. एक

3. चार

4. तीन

Question Type : MCQ

Question ID : 264330139716

Option 1 ID : 264330547280

Option 2 ID : 264330547279

Option 3 ID : 264330547282

Option 4 ID : 264330547281

Status : Answered

Chosen Option : 1

Q.7 1925 के काकोरी कांड (काकोरी ट्रेन एक्शन) में कौन-सा स्वतंत्रता सेनानी शामिल था, जिसके लिए ब्रिटिश सरकार ने उसे मौत की सजा सुनाई थी?

- Ans
- ✓ 1. राम प्रसाद बिस्मिल
 - ✗ 2. विनायक दामोदर सावरकर
 - ✗ 3. महात्मा गांधी
 - ✗ 4. लाला हरदयाल

Question Type : MCQ
Question ID : 264330140921
Option 1 ID : 264330552034
Option 2 ID : 264330552032
Option 3 ID : 264330552033
Option 4 ID : 264330552031
Status : Answered
Chosen Option : 1

Q.8 निम्नलिखित में से क्या जीवन की संरचनात्मक और मौलिक इकाई है?

- Ans
- ✗ 1. किण्वक
 - ✓ 2. कोशिका
 - ✗ 3. ऊतक
 - ✗ 4. हार्मोन

Question Type : MCQ
Question ID : 264330140323
Option 1 ID : 264330549671
Option 2 ID : 264330549673
Option 3 ID : 264330549672
Option 4 ID : 264330549674
Status : Answered
Chosen Option : 2

Q.9 प्रतिस्पर्धा संशोधन विधेयक, 2022 के अनुसार, गन-जंपिंग (gun-jumping) के लिए प्रस्तावित जुर्माना सौदे के मूल्य (deal value) का _____ है।

- Ans
- ✗ 1. 2%
 - ✗ 2. 0.5%
 - ✗ 3. 1.5%
 - ✓ 4. 1%

Question Type : MCQ
Question ID : 264330141047
Option 1 ID : 264330552538
Option 2 ID : 264330552535
Option 3 ID : 264330552537
Option 4 ID : 264330552536
Status : Not Answered
Chosen Option : --

Q.10 भीमबेटका (Bhimbetka) गुफाएँ निम्नलिखित में से किस राज्य में स्थित हैं?

- Ans
- 1. हरियाणा
 - 2. गुजरात
 - 3. मध्यप्रदेश
 - 4. राजस्थान

Question Type : MCQ
Question ID : 264330139669
Option 1 ID : 264330547094
Option 2 ID : 264330547093
Option 3 ID : 264330547092
Option 4 ID : 264330547091
Status : Answered
Chosen Option : 3

Q.11 निम्नलिखित में से कौन सी पुस्तक डॉ रघुराम राजन द्वारा लिखी गई थी?

- Ans
- 1. द थर्ड पिलर (The Third Pillar)
 - 2. माइ लाइफ इन फुल (My Life in Full)
 - 3. वी आर डिस्प्लेस्ड (We are Displaced)
 - 4. द इंडिया स्टोरी (The India Story)

Question Type : MCQ
Question ID : 264330141063
Option 1 ID : 264330552600
Option 2 ID : 264330552602
Option 3 ID : 264330552599
Option 4 ID : 264330552601
Status : Answered
Chosen Option : 1

Q.12 "खुदाई खिदमतगार (Khudai Khidmatgars)" नामक एक अहिंसक आंदोलन के संस्थापक कौन थे?

- Ans
- 1. खान अब्दुल ग़फ़ार खान
 - 2. मोहम्मद अली जिन्ना
 - 3. सी. राजगोपालाचारी
 - 4. महात्मा गांधी

Question Type : MCQ
Question ID : 264330139890
Option 1 ID : 264330547939
Option 2 ID : 264330547942
Option 3 ID : 264330547940
Option 4 ID : 264330547941
Status : Answered
Chosen Option : 1

Q.13 भारत में पहली असमकालिक (non-synchronous) जनगणना कब हुई थी?

- Ans
- 1. सन् 1792
 - 2. सन् 1972
 - 3. सन् 1772
 - 4. सन् 1872

Question Type : MCQ
Question ID : 264330140378
Option 1 ID : 264330549894
Option 2 ID : 264330549893
Option 3 ID : 264330549891
Option 4 ID : 264330549892
Status : Answered
Chosen Option : 3

Q.14 42वें संशोधन द्वारा भारत के संविधान में कितने मौलिक कर्तव्य शामिल किए गए हैं?

- Ans
- 1. 11
 - 2. 9
 - 3. 12
 - 4. 10

Question Type : MCQ
Question ID : 264330140951
Option 1 ID : 264330552151
Option 2 ID : 264330552153
Option 3 ID : 264330552154
Option 4 ID : 264330552152
Status : Answered
Chosen Option : 1

Q.15 जून 2022 में, "आर्थिक मामलों पर मंत्रिमंडलीय समिति" ने _____ के अविनियमन को मंजूरी दे दी है।

- Ans
- 1. रक्षा उपकरणों की बिक्री
 - 2. घरेलू स्तर पर उत्पादित कच्चे तेल की बिक्री
 - 3. परमाणु हथियारों की बिक्री
 - 4. रासायनिक हथियारों की बिक्री

Question Type : MCQ
Question ID : 264330139757
Option 1 ID : 264330547444
Option 2 ID : 264330547443
Option 3 ID : 264330547445
Option 4 ID : 264330547446
Status : Not Answered
Chosen Option : --

Q.16 राष्ट्रीय आदिवासी नृत्य महोत्सव 2022 कहाँ आयोजित किया गया था?

- Ans
- 1. पुणे
 - 2. पुरी
 - 3. रायपुर
 - 4. जयपुर

Question Type : MCQ
Question ID : 264330138947
Option 1 ID : 264330544397
Option 2 ID : 264330544398
Option 3 ID : 264330544395
Option 4 ID : 264330544396
Status : Answered
Chosen Option : 4

Q.17 एक वर्ष में प्रति हजार व्यक्तियों पर जीवित जन्मों (live births) की संख्या को _____ कहा जाता है।

- Ans
- 1. जन्म दर
 - 2. स्थूल दर
 - 3. मृत्यु दर
 - 4. प्रजनन दर

Question Type : MCQ
Question ID : 264330141057
Option 1 ID : 264330552578
Option 2 ID : 264330552576
Option 3 ID : 264330552577
Option 4 ID : 264330552575
Status : Answered
Chosen Option : 1

Q.18 ट्रेजरी (राजकोष) बिल _____ द्वारा जारी किए जाते हैं।

- Ans
- 1. भारतीय बीमा नियामक प्राधिकरण
 - 2. भारतीय प्रतिभूति और विनिमय बोर्ड
 - 3. भारत सरकार
 - 4. भारतीय रिज़र्व बैंक

Question Type : MCQ
Question ID : 264330138956
Option 1 ID : 264330544433
Option 2 ID : 264330544434
Option 3 ID : 264330544432
Option 4 ID : 264330544431
Status : Answered
Chosen Option : 4

Q.19 वर्ष 2018 के लिए विज्डन लीडिंग क्रिकेटर (Wisden's Leading Cricketer) कौन बने?

- Ans
- 1. विराट कोहली
 - 2. रोहित शर्मा
 - 3. बेन स्टोक्स
 - 4. केन विलियमसन

Question Type : MCQ

Question ID : 264330140271

Option 1 ID : 264330549466

Option 2 ID : 264330549465

Option 3 ID : 264330549464

Option 4 ID : 264330549463

Status : Answered

Chosen Option : 3

Q.20 यामिनी कृष्णमूर्ति किस नृत्य शैली की प्रसिद्ध नृत्यांगना हैं?

- Ans
- 1. मोहिनीअट्टम
 - 2. ओडिसी
 - 3. भरतनाट्यम
 - 4. बिहू

Question Type : MCQ

Question ID : 264330140294

Option 1 ID : 264330549556

Option 2 ID : 264330549558

Option 3 ID : 264330549555

Option 4 ID : 264330549557

Status : Answered

Chosen Option : 3

Q.21 अकबर की राजस्व प्रणाली "ज़ब्त" _____ द्वारा विकसित की गई थी।

- Ans
- 1. राजा भारमल
 - 2. राजा मानसिंह
 - 3. बैरम खाँ
 - 4. टोडरमल

Question Type : MCQ

Question ID : 264330138993

Option 1 ID : 264330544581

Option 2 ID : 264330544579

Option 3 ID : 264330544580

Option 4 ID : 264330544582

Status : Answered

Chosen Option : 3

Q.22 राइडर कप (Ryder Cup) _____ खेल से जुड़ा है।

- Ans
- ✓ 1. गोल्फ
 - ✗ 2. क्रिकेट
 - ✗ 3. तैराकी
 - ✗ 4. साइक्लिंग

Question Type : MCQ
Question ID : 264330140723
Option 1 ID : 264330551241
Option 2 ID : 264330551239
Option 3 ID : 264330551242
Option 4 ID : 264330551240
Status : Not Answered
Chosen Option : --

Q.23 दिलवाड़ा मंदिर भारत के सबसे बेहतरीन और अपनी स्थापत्यकला के लिए प्रसिद्ध _____ मंदिरों में से एक है।

- Ans
- ✗ 1. बौद्ध
 - ✗ 2. हिंदू
 - ✓ 3. जैन
 - ✗ 4. सिख

Question Type : MCQ
Question ID : 264330140371
Option 1 ID : 264330549865
Option 2 ID : 264330549864
Option 3 ID : 264330549866
Option 4 ID : 264330549863
Status : Answered
Chosen Option : 3

Q.24 निम्न में से कौन-सी धातु अमलगम (amalgam) में सदैव एक घटक के रूप में विद्यमान होती है?

- Ans
- ✗ 1. स्ट्रॉन्शियम
 - ✓ 2. पारद
 - ✗ 3. ऐलुमीनियम
 - ✗ 4. जस्ता

Question Type : MCQ
Question ID : 264330140681
Option 1 ID : 264330551073
Option 2 ID : 264330551074
Option 3 ID : 264330551072
Option 4 ID : 264330551071
Status : Answered
Chosen Option : 2

Q.25 उपग्रह वायुमंडल की निम्नलिखित में से किस परत में पृथ्वी की परिक्रमा करते हैं?

- Ans
- 1. मध्यमंडल
 - 2. बहिर्मंडल
 - 3. समतापमंडल
 - 4. क्षोभमंडल

Question Type : MCQ
Question ID : 264330141054
Option 1 ID : 264330552565
Option 2 ID : 264330552563
Option 3 ID : 264330552566
Option 4 ID : 264330552564
Status : Answered
Chosen Option : 2

Section : English Language and Comprehension

Q.1 Select the word from the options which is exactly opposite in meaning to the bracketed word given in the sentence below.

The Prime Minister is making no (rash) promises.

- Ans
- 1. Immature
 - 2. Considerate
 - 3. Audacious
 - 4. Bold

Question Type : MCQ
Question ID : 264330135864
Option 1 ID : 264330532319
Option 2 ID : 264330532322
Option 3 ID : 264330532321
Option 4 ID : 264330532320
Status : Answered
Chosen Option : 2

Q.2 Select the word segment that substitutes (replaces) the bracketed word segment correctly and completes the sentence meaningfully. Select the option 'no correction required' if the sentence is correct as given.

He gritted his teeth and tried to act as though he (either noticed nor cared).

- Ans
- 1. neither noticed nor cared
 - 2. either noticed or cared
 - 3. neither noticed cared
 - 4. No correction required

Question Type : MCQ
Question ID : 264330136269
Option 1 ID : 264330533861
Option 2 ID : 264330533859
Option 3 ID : 264330533860
Option 4 ID : 264330533862
Status : Answered
Chosen Option : 1

Q.3 Select the most appropriate meaning of the given idiom

To pull your weight

- Ans
- 1. To buy something
 - 2. To give something
 - 3. To help one's relatives
 - 4. To do your full share of work

Question Type : **MCQ**
Question ID : **264330136207**
Option 1 ID : **264330533622**
Option 2 ID : **264330533619**
Option 3 ID : **264330533621**
Option 4 ID : **264330533620**
Status : **Answered**
Chosen Option : **4**

Q.4 Identify the segment that contains a grammatical error. If there is no error, select 'No error'.
Hearing those words / from his mouth, was / hard than I thought.

- Ans
- 1. No error
 - 2. from his mouth, was
 - 3. Hearing those words
 - 4. hard than I thought.

Question Type : **MCQ**
Question ID : **264330135690**
Option 1 ID : **264330531654**
Option 2 ID : **264330531652**
Option 3 ID : **264330531651**
Option 4 ID : **264330531653**
Status : **Answered**
Chosen Option : **4**

Q.5 Select the most appropriate option to fill in the blank.

A loud thud woke up everybody and nobody knew what all the _____ was about.

- Ans
- 1. exoneration
 - 2. commotion
 - 3. culmination
 - 4. abomination

Question Type : **MCQ**
Question ID : **264330136212**
Option 1 ID : **264330533639**
Option 2 ID : **264330533640**
Option 3 ID : **264330533642**
Option 4 ID : **264330533641**
Status : **Answered**
Chosen Option : **2**

Q.6 Four sentences are given, out of which three have spelling errors. Choose the sentence with all correctly spelt words.

- Ans**
- 1. The teacher told him to watch his grammer.
 - 2. Thousands protested the election fraud.
 - 3. My friend happend by around dinnertime.
 - 4. That was an impressive and an irresistable necklace.

Question Type : **MCQ**
Question ID : **264330136288**
Option 1 ID : **264330533931**
Option 2 ID : **264330533933**
Option 3 ID : **264330533932**
Option 4 ID : **264330533934**
Status : **Answered**
Chosen Option : **1**

Q.7 Select the most appropriate option to fill in the blank.

Some were very shaky and unstable, others were _____, and a few were both!

- Ans**
- 1. convoluted
 - 2. involuted
 - 3. voluted
 - 4. diluted

Question Type : **MCQ**
Question ID : **264330136351**
Option 1 ID : **264330534178**
Option 2 ID : **264330534177**
Option 3 ID : **264330534176**
Option 4 ID : **264330534175**
Status : **Answered**
Chosen Option : **3**

Q.8 Select the most appropriate word for the given group of words.

License granted to an individual or group to market a company's goods or services in a particular territory

- Ans**
- 1. Marketing
 - 2. Franchise
 - 3. Monopoly
 - 4. Branding

Question Type : **MCQ**
Question ID : **264330136175**
Option 1 ID : **264330533496**
Option 2 ID : **264330533498**
Option 3 ID : **264330533497**
Option 4 ID : **264330533495**
Status : **Answered**
Chosen Option : **1**

Q.9 Select the most appropriate word for the given group of words.

The art of careful public speaking, using clear pronunciation

- Ans**
- 1. Incubation
 - 2. Abdication
 - 3. Elocution
 - 4. Obrution

Question Type : **MCQ**
Question ID : **264330135730**
Option 1 ID : **264330531806**
Option 2 ID : **264330531804**
Option 3 ID : **264330531805**
Option 4 ID : **264330531803**
Status : **Answered**
Chosen Option : **3**

Q.10 Select the most appropriate option to substitute the bracketed segment in the given sentence. If there is no need to substitute it, select 'no substitution required'.

The ban has landed the circus managements in a tricky (situation as they can neither use them for the shows or) abandon them.

- Ans**
- 1. situation as they cannot either use them for the shows nor
 - 2. situation as them can either use them for the shows or
 - 3. situation as they can neither use them for the shows nor
 - 4. No substitution required

Question Type : **MCQ**
Question ID : **264330136347**
Option 1 ID : **264330534159**
Option 2 ID : **264330534161**
Option 3 ID : **264330534160**
Option 4 ID : **264330534162**
Status : **Answered**
Chosen Option : **3**

Q.11 Select the most appropriate option to fill in the blank.

The _____ term "wasteland" is proposed to be replaced by the term "urban commons."

- Ans**
- 1. imperative
 - 2. indicative
 - 3. lucrative
 - 4. derogatory

Question Type : **MCQ**
Question ID : **264330136193**
Option 1 ID : **264330533567**
Option 2 ID : **264330533568**
Option 3 ID : **264330533570**
Option 4 ID : **264330533569**
Status : **Answered**
Chosen Option : **2**

Q.12 Select the most appropriate option to fill in the blank.

Her ribs were _____ but no longer painful.

- Ans
- 1. sure
 - 2. soar
 - 3. sore
 - 4. sour

Question Type : **MCQ**
Question ID : **264330135254**
Option 1 ID : **264330529938**
Option 2 ID : **264330529937**
Option 3 ID : **264330529936**
Option 4 ID : **264330529935**
Status : **Answered**
Chosen Option : **3**

Q.13 Select the most appropriate synonym of the given word.

Liberty

- Ans
- 1. Freedom
 - 2. Acclamation
 - 3. Dependence
 - 4. Statue

Question Type : **MCQ**
Question ID : **264330136426**
Option 1 ID : **264330534463**
Option 2 ID : **264330534466**
Option 3 ID : **264330534464**
Option 4 ID : **264330534465**
Status : **Answered**
Chosen Option : **1**

Q.14 Identify the segment that contains a grammatical error. If there is no error, select 'No error'.

Harry's eyes watered in / the chill as they soar upwards; he / could see nothing below now.

- Ans
- 1. could see nothing below now.
 - 2. the chill as they soar upwards; he
 - 3. No error
 - 4. Harry's eyes watered in

Question Type : **MCQ**
Question ID : **264330136111**
Option 1 ID : **264330533253**
Option 2 ID : **264330533252**
Option 3 ID : **264330533254**
Option 4 ID : **264330533251**
Status : **Answered**
Chosen Option : **1**

Q.15 Choose the word that is opposite in meaning to the given word.

Similar

- Ans
- 1. Resemblant
 - 2. Unlike
 - 3. Secretive
 - 4. Bizarre

Question Type : MCQ

Question ID : 264330135170

Option 1 ID : 264330529612

Option 2 ID : 264330529613

Option 3 ID : 264330529611

Option 4 ID : 264330529614

Status : Answered

Chosen Option : 2

Q.16 Improve the underlined part of the sentence. Choose 'No improvement' as an answer if the sentence is grammatically correct.

A health person may carry germs of typhoid, cholera, dysentery, etc. in his body.

- Ans
- 1. health persons might
 - 2. No improvement
 - 3. healthy person may
 - 4. healthy persons would

Question Type : MCQ

Question ID : 264330135540

Option 1 ID : 264330531063

Option 2 ID : 264330531066

Option 3 ID : 264330531064

Option 4 ID : 264330531065

Status : Answered

Chosen Option : 3

Q.17 Identify the segment that contains a grammatical error. If there is no error, select 'No error'.

At night, lying sleepless, he considered / sending messengers besides the country, / secretly, in search of his friend.

- Ans
- 1. sending messengers besides the country,
 - 2. At night, lying sleepless, he considered
 - 3. secretly, in search of his friend.
 - 4. No error

Question Type : MCQ

Question ID : 264330135845

Option 1 ID : 264330532248

Option 2 ID : 264330532247

Option 3 ID : 264330532249

Option 4 ID : 264330532250

Status : Answered

Chosen Option : 1

Q.18 Four words are given, out of which three words are spelt correctly. Choose the incorrectly spelt word.

- Ans**
- ✓ 1. Publically
 - ✗ 2. Referred
 - ✗ 3. Separate
 - ✗ 4. Recommend

Question Type : **MCQ**
Question ID : **264330135867**
Option 1 ID : **264330532331**
Option 2 ID : **264330532333**
Option 3 ID : **264330532334**
Option 4 ID : **264330532332**
Status : **Answered**
Chosen Option : **3**

Q.19 Select the word from the options which is similar in meaning to the bracketed word given in the sentence below.
They are institutions built to hold and (continue) power for a political group.

- Ans**
- ✗ 1. waste
 - ✗ 2. release
 - ✓ 3. maintain
 - ✗ 4. abandon

Question Type : **MCQ**
Question ID : **264330141197**
Option 1 ID : **264330553126**
Option 2 ID : **264330553125**
Option 3 ID : **264330553124**
Option 4 ID : **264330553123**
Status : **Answered**
Chosen Option : **3**

Q.20 The statement below has been given with bracketed text. Select the option with correct idiom for the bracketed text.
They were really (selecting from the last or worst of the resources left) when they picked you.

- Ans**
- ✗ 1. pulling up snakes
 - ✗ 2. going haywire
 - ✗ 3. rolling the stones
 - ✓ 4. scraping the bottom of the barrel

Question Type : **MCQ**
Question ID : **264330136286**
Option 1 ID : **264330533925**
Option 2 ID : **264330533926**
Option 3 ID : **264330533924**
Option 4 ID : **264330533923**
Status : **Answered**
Chosen Option : **4**

Comprehension:

In the following passage some words have been deleted. Fill in the blanks with the help of the alternatives given. Select the most appropriate option for each number.

The term Democracy (1) _____ from the Greek (2) _____ dêmos (people) and Kratos (power). In its (3) _____ meaning, democracy means the "rule of the people". In fact it is a form of government in which all eligible people have an (4) _____ say in the decisions that affect their lives. Democracy (5) _____ a political systems existed in some Greek city-states, notably Athens following a popular uprising in 508 BC.

SubQuestion No : 21

Q.21 Select the most appropriate option to fill in blank number 1.

- Ans**
- 1. comes
 - 2. will come
 - 3. is coming
 - 4. came

Question Type : **MCQ**
Question ID : **264330135672**
Option 1 ID : **264330531580**
Option 2 ID : **264330531581**
Option 3 ID : **264330531582**
Option 4 ID : **264330531579**
Status : **Answered**
Chosen Option : **1**

Comprehension:

In the following passage some words have been deleted. Fill in the blanks with the help of the alternatives given. Select the most appropriate option for each number.

The term Democracy (1) _____ from the Greek (2) _____ dêmos (people) and Kratos (power). In its (3) _____ meaning, democracy means the "rule of the people". In fact it is a form of government in which all eligible people have an (4) _____ say in the decisions that affect their lives. Democracy (5) _____ a political systems existed in some Greek city-states, notably Athens following a popular uprising in 508 BC.

SubQuestion No : 22

Q.22 Select the most appropriate option to fill in blank number 2.

- Ans**
- 1. words
 - 2. letters
 - 3. numbers
 - 4. symbols

Question Type : **MCQ**
Question ID : **264330135673**
Option 1 ID : **264330531585**
Option 2 ID : **264330531586**
Option 3 ID : **264330531584**
Option 4 ID : **264330531583**
Status : **Answered**
Chosen Option : **1**

Comprehension:

In the following passage some words have been deleted. Fill in the blanks with the help of the alternatives given. Select the most appropriate option for each number.

The term Democracy (1) _____ from the Greek (2) _____ dêmos (people) and Kratos (power). In its (3) _____ meaning, democracy means the "rule of the people". In fact it is a form of government in which all eligible people have an (4) _____ say in the decisions that affect their lives. Democracy (5) _____ a political systems existed in some Greek city-states, notably Athens following a popular uprising in 508 BC.

SubQuestion No : 23

Q.23 Select the most appropriate option to fill in blank number 3.

- Ans**
- 1. metaphorical
 - 2. literal
 - 3. figurative
 - 4. hyperbole

Question Type : **MCQ**
Question ID : **264330135674**
Option 1 ID : **264330531588**
Option 2 ID : **264330531590**
Option 3 ID : **264330531587**
Option 4 ID : **264330531589**
Status : **Answered**
Chosen Option : **2**

Comprehension:

In the following passage some words have been deleted. Fill in the blanks with the help of the alternatives given. Select the most appropriate option for each number.

The term Democracy (1) _____ from the Greek (2) _____ dêmos (people) and Kratos (power). In its (3) _____ meaning, democracy means the "rule of the people". In fact it is a form of government in which all eligible people have an (4) _____ say in the decisions that affect their lives. Democracy (5) _____ a political systems existed in some Greek city-states, notably Athens following a popular uprising in 508 BC.

SubQuestion No : 24

Q.24 Select the most appropriate option to fill in blank number 4.

- Ans**
- 1. irregular
 - 2. equal
 - 3. unequal
 - 4. unfair

Question Type : **MCQ**
Question ID : **264330135675**
Option 1 ID : **264330531594**
Option 2 ID : **264330531593**
Option 3 ID : **264330531592**
Option 4 ID : **264330531591**
Status : **Answered**
Chosen Option : **2**

Comprehension:

In the following passage some words have been deleted. Fill in the blanks with the help of the alternatives given. Select the most appropriate option for each number.

The term Democracy (1) _____ from the Greek (2) _____ dêmos (people) and Kratos (power). In its (3) _____ meaning, democracy means the "rule of the people". In fact it is a form of government in which all eligible people have an (4) _____ say in the decisions that affect their lives. Democracy (5) _____ a political systems existed in some Greek city-states, notably Athens following a popular uprising in 508 BC.

SubQuestion No : 25

Q.25 Select the most appropriate option to fill in blank number 5.

- Ans**
- 1. as
 - 2. in
 - 3. over
 - 4. of

Question Type : **MCQ**

Question ID : **264330135676**

Option 1 ID : **264330531595**

Option 2 ID : **264330531596**

Option 3 ID : **264330531598**

Option 4 ID : **264330531597**

Status : **Answered**

Chosen Option : **2**

Multi Tasking Non Technical Staff and Havaladar CBIC and CBN Examination 2022

Roll Number	KD Job Updates
Candidate Name	KD Job Updates
Venue Name	Shankara Group Of Institutions
Exam Date	15/05/2023
Exam Time	12:00 PM - 2:00 PM
Subject	MTS Non Tech Havaladar CBIC and CBN Examination 2022

Section : Numerical and Mathematical Ability

Q.1 A अकेले किसी काम को 60 दिनों में कर सकता है और B अकेले उसी काम को A द्वारा लिए गए समय से 33.33% कम समय में कर सकता है। B द्वारा अकेले काम को पूरा करने में लिया गया समय ज्ञात कीजिए।

- Ans
- 1. 30 दिन
 - 2. 40 दिन
 - 3. 22 दिन
 - 4. 17 दिन

Question Type : MCQ
Question ID : 264330133790
Option 1 ID : 264330524183
Option 2 ID : 264330524184
Option 3 ID : 264330524185
Option 4 ID : 264330524186
Status : Answered
Chosen Option : 2

Q.2 एक आदमी A से B तक 200 kmph की चाल से जाता है और 300 kmph की चाल से A तक वापस आता है। पूरी यात्रा के लिए उसकी औसत चाल ज्ञात कीजिये?

- Ans
- 1. 345 kmph
 - 2. 340 kmph
 - 3. 240 kmph
 - 4. 264 kmph

Question Type : MCQ
Question ID : 264330135100
Option 1 ID : 264330529337
Option 2 ID : 264330529335
Option 3 ID : 264330529336
Option 4 ID : 264330529338
Status : Answered
Chosen Option : 3

Q.3 यदि A, B से 20 प्रतिशत कम है, तो B, A से कितने प्रतिशत अधिक है?

- Ans
- 1. 50 प्रतिशत
 - 2. 33.33 प्रतिशत
 - 3. 20 प्रतिशत
 - 4. 25 प्रतिशत

Question Type : MCQ
Question ID : 264330135048
Option 1 ID : 264330529127
Option 2 ID : 264330529128
Option 3 ID : 264330529130
Option 4 ID : 264330529129
Status : Answered
Chosen Option : 3

Q.4 यदि एक दुकानदार एक वस्तु को Rs. 4673 में बेचता है जिसका क्रय मूल्य Rs. 3456 था, तो दुकानदार का लाभ ज्ञात कीजिए

- Ans
- 1. Rs. 1237
 - 2. Rs. 1345
 - 3. Rs. 1456
 - 4. Rs. 1217

Question Type : MCQ
Question ID : 264330135094
Option 1 ID : 264330529312
Option 2 ID : 264330529313
Option 3 ID : 264330529314
Option 4 ID : 264330529311
Status : Answered
Chosen Option : 4

Q.5 प्रथम 10 प्राकृत संख्याओं का औसत क्या है?

- Ans
- 1. 10
 - 2. 5.5
 - 3. 10.5
 - 4. 5

Question Type : MCQ
Question ID : 264330135089
Option 1 ID : 264330529291
Option 2 ID : 264330529293
Option 3 ID : 264330529294
Option 4 ID : 264330529292
Status : Answered
Chosen Option : 3

Q.6 एक धनराशि साधारण ब्याज पर 20 प्रतिशत वार्षिक दर पर 4 वर्ष में Rs.5400 हो जाती है। वह धनराशि क्या है?

- Ans
- ✓ 1. Rs.3000
 - ✗ 2. Rs.2000
 - ✗ 3. Rs.2500
 - ✗ 4. Rs.4000

Question Type : MCQ

Question ID : 264330135053

Option 1 ID : 264330529148

Option 2 ID : 264330529149

Option 3 ID : 264330529150

Option 4 ID : 264330529147

Status : Answered

Chosen Option : 1

Q.7 एक पंक्ति में बैठे चार छात्रों में से अंतिम तीन छात्रों की औसत आयु 48 वर्ष है और पहले तीन छात्रों की औसत आयु 50 वर्ष है। यदि पहले छात्र की आयु 56 वर्ष है, तो अंतिम छात्र की आयु कितनी है?

- Ans
- ✗ 1. 60 वर्ष
 - ✗ 2. 40 वर्ष
 - ✓ 3. 50 वर्ष
 - ✗ 4. 30 वर्ष

Question Type : MCQ

Question ID : 264330137325

Option 1 ID : 264330537928

Option 2 ID : 264330537929

Option 3 ID : 264330537930

Option 4 ID : 264330537927

Status : Answered

Chosen Option : 1

Q.8 एक धनराशि 12 वर्ष में स्वयं की दोगुनी हो जाती है। साधारण ब्याज का वार्षिक दर प्रतिशत ज्ञात कीजिए।

- Ans
- ✗ 1. 11.11%
 - ✗ 2. 6.25%
 - ✗ 3. 9.09%
 - ✓ 4. 8.33%

Question Type : MCQ

Question ID : 264330135076

Option 1 ID : 264330529241

Option 2 ID : 264330529240

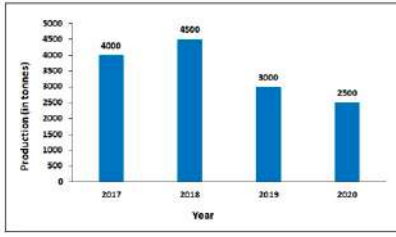
Option 3 ID : 264330529242

Option 4 ID : 264330529239

Status : Answered

Chosen Option : 4

Q.9 निम्नलिखित आलेख में 4 क्रमागत वर्षों में रागी के उत्पादन को दर्शाया गया है। किस वर्ष रागी का उत्पादन सर्वाधिक है?



Production (in tonnes) - उत्पादन (टन में), Year - वर्ष

- Ans
- 1. 2017
 - 2. 2019
 - 3. 2020
 - 4. 2018

Question Type : MCQ

Question ID : 264330135104

Option 1 ID : 264330529351

Option 2 ID : 264330529353

Option 3 ID : 264330529354

Option 4 ID : 264330529352

Status : Answered

Chosen Option : 4

Q.10 एक धनराशि साधारण ब्याज पर 3 वर्ष में Rs. 610 और 4 वर्ष में Rs. 650 हो जाती है। वह धनराशि है:

- Ans
- 1. Rs. 550
 - 2. Rs. 490
 - 3. Rs. 570
 - 4. Rs. 610

Question Type : MCQ

Question ID : 264330135097

Option 1 ID : 264330529324

Option 2 ID : 264330529326

Option 3 ID : 264330529323

Option 4 ID : 264330529325

Status : Answered

Chosen Option : 2

Q.11 नीचे दी गई तालिका में पाँच कक्षाओं में अलग-अलग खेल खेलने वाले विद्यार्थियों की संख्या को दर्शाया गया है।

कक्षा	खेल		
	A	B	C
6वीं	30	50	70
7वीं	60	20	35
8वीं	40	10	90
9वीं	38	26	50
10वीं	25	32	20

निम्नलिखित में से कौन-सा कथन सही है?

- I. 9वीं कक्षा में A और B खेल खेलने वाले विद्यार्थियों की औसत संख्या 32 है।
- II. 8वीं कक्षा में A और C खेल खेलने वाले विद्यार्थियों की औसत संख्या 75 है।
- III. 10वीं कक्षा में तीनों खेल खेलने वाले विद्यार्थियों की कुल संख्या 77 है।

- Ans
- 1. II और III
 - 2. I और II
 - 3. I और III
 - 4. I, II और III

Question Type : MCQ

Question ID : 264330135062

Option 1 ID : 264330529184

Option 2 ID : 264330529183

Option 3 ID : 264330529185

Option 4 ID : 264330529186

Status : Answered

Chosen Option : 3

Q.12 12 पुरुष प्रतिदिन 4 घंटे कार्य करके एक कार्य को 6 दिनों में पूरा कर सकते हैं। यदि 4 पुरुष प्रतिदिन 8 घंटे कार्य करें, तो यही कार्य कितने दिनों में पूरा होगा?

- Ans
- 1. 9 दिन
 - 2. 6 दिन
 - 3. 10 दिन
 - 4. 8 दिन

Question Type : MCQ

Question ID : 264330137874

Option 1 ID : 264330540103

Option 2 ID : 264330540105

Option 3 ID : 264330540104

Option 4 ID : 264330540106

Status : Answered

Chosen Option : 1

Q.13 एक व्यक्ति शुरुआती 15 km की दूरी 60 मिनट में और अगले 24 km की दूरी 30 मिनट में तय करता है। पूरी यात्रा में उसकी औसत चाल क्या है?

- Ans
- 1. 29 km/hr
 - 2. 23 km/hr
 - 3. 33 km/hr
 - 4. 26 km/hr

Question Type : MCQ

Question ID : 264330137179

Option 1 ID : 264330537361

Option 2 ID : 264330537360

Option 3 ID : 264330537359

Option 4 ID : 264330537362

Status : Answered

Chosen Option : 4

Q.14 पंकज एक वस्तु बेचकर 55 प्रतिशत का लाभ अर्जित करता है। वस्तु के क्रय मूल्य और विक्रय मूल्य का अनुपात क्या होगा?

- Ans
- 1. 17 : 25
 - 2. 20 : 37
 - 3. 18 : 25
 - 4. 20 : 31

Question Type : MCQ

Question ID : 264330137609

Option 1 ID : 264330539043

Option 2 ID : 264330539045

Option 3 ID : 264330539046

Option 4 ID : 264330539044

Status : Answered

Chosen Option : 2

Q.15 $9 \times 121 + 11 \times 84 \div 4$ का मान क्या है?

- Ans
- 1. 1240
 - 2. 1230
 - 3. 1320
 - 4. 1340

Question Type : MCQ

Question ID : 264330139012

Option 1 ID : 264330544657

Option 2 ID : 264330544655

Option 3 ID : 264330544656

Option 4 ID : 264330544658

Status : Answered

Chosen Option : 3

Q.16 एक बाल्टी में 40 लाल गेंदें और 120 नीली गेंदें हैं। बाल्टी में लाल और नीली गेंदों का अनुपात है:

- Ans 1. 1:3
 2. 3:4
 3. 2:3
 4. 1:4

Question Type : MCQ
Question ID : 264330135096
Option 1 ID : 264330529320
Option 2 ID : 264330529322
Option 3 ID : 264330529321
Option 4 ID : 264330529319
Status : Answered
Chosen Option : 1

Q.17 एक खिलौने का अंकित मूल्य 100 रुपए है और विक्रय मूल्य 80 रुपए है। बड़ा प्रतिशत की गणना कीजिए।

- Ans 1. 20 %
 2. 10 %
 3. 40 %
 4. 30 %

Question Type : MCQ
Question ID : 264330135095
Option 1 ID : 264330529316
Option 2 ID : 264330529315
Option 3 ID : 264330529318
Option 4 ID : 264330529317
Status : Answered
Chosen Option : 1

Q.18 हल कीजिए : $\left[\left(\frac{144}{12} \right) + (43 \times 3) \right] + 45 - 20 \times 3$

- Ans 1. 126
 2. 127
 3. 156
 4. 111

Question Type : MCQ
Question ID : 264330135086
Option 1 ID : 264330529281
Option 2 ID : 264330529280
Option 3 ID : 264330529282
Option 4 ID : 264330529279
Status : Answered
Chosen Option : 1

Q.19 एक अर्धगोले की त्रिज्या 5 cm है। आयतन ज्ञात कीजिए।

- Ans
- 1. 117.9 cm³
 - 2. 150.6 cm³
 - 3. 330.4 cm³
 - 4. 261.9 cm³

Question Type : MCQ
Question ID : 264330135432
Option 1 ID : 264330530636
Option 2 ID : 264330530638
Option 3 ID : 264330530637
Option 4 ID : 264330530635
Status : Answered
Chosen Option : 4

Q.20 यदि दो बेलनों की ऊँचाइयों का अनुपात 7 : 9 है और उनके व्यासों का अनुपात 6 : 7 है, तो बेलनों के आयतनों का अनुपात कितना है?

- Ans
- 1. 7 : 9
 - 2. 4 : 7
 - 3. 5 : 9
 - 4. 6 : 7

Question Type : MCQ
Question ID : 264330137887
Option 1 ID : 264330540155
Option 2 ID : 264330540156
Option 3 ID : 264330540158
Option 4 ID : 264330540157
Status : Answered
Chosen Option : 3

Section : Reasoning Ability and Problem Solving

Q.1 दी गई श्रृंखला में निम्नलिखित में से कौन-सी संख्या प्रश्न चिन्ह (?) के स्थान पर आएगी?
88, 92, 97, 103, 110, 118, ?

- Ans
- 1. 117
 - 2. 219
 - 3. 127
 - 4. 217

Question Type : MCQ
Question ID : 264330134945
Option 1 ID : 264330528716
Option 2 ID : 264330528718
Option 3 ID : 264330528717
Option 4 ID : 264330528715
Status : Answered
Chosen Option : 3

Q.2 एक निश्चित कूट भाषा में, 'DARK' को 'ECSM' लिखा जाता है और 'TREE' को 'UTFG' लिखा जाता है। उस भाषा में 'GAME' को कैसे लिखा जाएगा?

- Ans
- ✓ 1. HCNG
 - ✗ 2. HCMG
 - ✗ 3. HCNF
 - ✗ 4. HCNH

Question Type : MCQ

Question ID : 264330133509

Option 1 ID : 264330523069

Option 2 ID : 264330523068

Option 3 ID : 264330523067

Option 4 ID : 264330523070

Status : Answered

Chosen Option : 1

Q.3 छः महिलाएँ अनु, प्रीति, आरती, कीर्ति, पूनम और सुमन एक वृत्ताकार मेज पर केंद्र की ओर मुख करके बैठी हैं। प्रीति, पूनम के सम्मुख बैठी है। पूनम, कीर्ति और अनु के ठीक बीच में बैठी है। आरती, अनु के ठीक दाएँ पर बैठी है। प्रीति के ठीक दाएँ पर कौन बैठा है?

- Ans
- ✗ 1. अनु
 - ✓ 2. सुमन
 - ✗ 3. आरती
 - ✗ 4. कीर्ति

Question Type : MCQ

Question ID : 264330134984

Option 1 ID : 264330528871

Option 2 ID : 264330528874

Option 3 ID : 264330528872

Option 4 ID : 264330528873

Status : Answered

Chosen Option : 2

Q.4 दिए गए समीकरण को सही करने के लिए किन दो चिन्हों को आपस में बदला जाना चाहिए?
 $13 - 25 = 5 + 4 \div 12$

- Ans
- ✓ 1. \div और $=$
 - ✗ 2. $+$ और $=$
 - ✗ 3. $-$ और $=$
 - ✗ 4. $+$ और $-$

Question Type : MCQ

Question ID : 264330134993

Option 1 ID : 264330528909

Option 2 ID : 264330528907

Option 3 ID : 264330528908

Option 4 ID : 264330528910

Status : Answered

Chosen Option : 1

Q.5 दिए गए पैटर्न का ध्यानपूर्वक अध्ययन कीजिए और उस संख्या को चुनिए जो इसमें प्रश्न चिन्ह (?) के स्थान पर आ सकती है?
प्रथम पंक्ति- 7, 343, 49
द्वितीय पंक्ति- 6, 216, 36
तृतीय पंक्ति- 5, 125, ?

- Ans**
- 1. 85
 - 2. 45
 - 3. 30
 - 4. 25

Question Type : **MCQ**

Question ID : **264330134992**

Option 1 ID : **264330528906**

Option 2 ID : **264330528904**

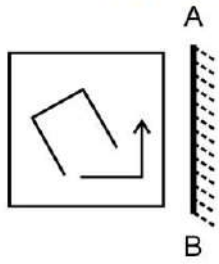
Option 3 ID : **264330528903**

Option 4 ID : **264330528905**

Status : **Answered**

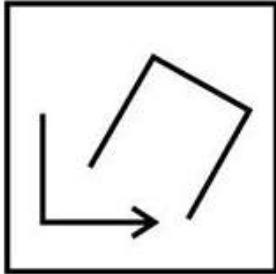
Chosen Option : **4**

Q.6 दी गई आकृति के उस सही दर्पण प्रतिबिंब को चुनिए जो दर्पण AB को आकृति के दाईं ओर रखने पर बनेगा ।

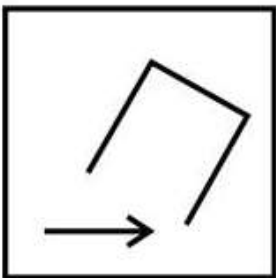


Ans

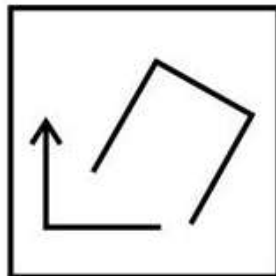
✗ 1.



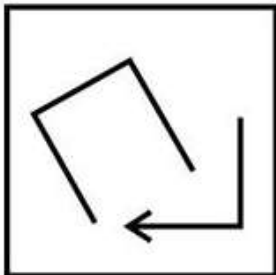
✗ 2.



✓ 3.



✗ 4.



Question Type : MCQ

Question ID : 264330134952

Option 1 ID : 264330528746

Option 2 ID : 264330528743

Option 3 ID : 264330528745

Option 4 ID : 264330528744

Status : Answered

Chosen Option : 3

Q.7 एक निश्चित कूट भाषा में, 'VOTED' को '76218' लिखा जाता है, 'WIDER' को '08759' लिखा जाता है, 'ADORE' को '79382' लिखा जाता है। उस कूट भाषा में 'ART' को कैसे लिखा जाएगा?

- Ans
- 1. 387
 - 2. 395
 - 3. 397
 - 4. 396

Question Type : MCQ

Question ID : 264330137372

Option 1 ID : 264330538115

Option 2 ID : 264330538116

Option 3 ID : 264330538118

Option 4 ID : 264330538117

Status : Answered

Chosen Option : 1

Q.8 सात लड़कों I, II, III, IV, V, VI और VII में प्रत्येक की उम्र अलग-अलग है। V केवल II से बड़ा है। I, केवल VI से छोटा है। III चार अन्य लड़कों से बड़ा है। VII, IV से छोटा है। लड़कों में चौथा सबसे बड़ा कौन है?

- Ans
- 1. III
 - 2. II
 - 3. IV
 - 4. I

Question Type : MCQ

Question ID : 264330134986

Option 1 ID : 264330528880

Option 2 ID : 264330528879

Option 3 ID : 264330528881

Option 4 ID : 264330528882

Status : Answered

Chosen Option : 2

Q.9 दिए गए समीकरण को सही करने के लिए किन दो चिन्हों को आपस में बदला जाना चाहिए?

$$9 \times 4 + 6 \div 3 - 5 = 39$$

- Ans
- 1. \times और $+$
 - 2. $-$ और $+$
 - 3. \div और $-$
 - 4. $-$ और $=$

Question Type : MCQ

Question ID : 264330134972

Option 1 ID : 264330528826

Option 2 ID : 264330528823

Option 3 ID : 264330528825

Option 4 ID : 264330528824

Status : Answered

Chosen Option : 2

Q.10 उस विकल्प को चुनिए जो तीसरे शब्द से ठीक उसी तरह संबंधित है जिस तरह दूसरा शब्द पहले शब्द से संबंधित है।
फल : अनार :: स्तनपायी : ?

- Ans**
- ✓ 1. कुत्ता
 - ✗ 2. छिपकली
 - ✗ 3. साँप
 - ✗ 4. कबूतर

Question Type : **MCQ**

Question ID : **264330134979**

Option 1 ID : **264330528851**

Option 2 ID : **264330528853**

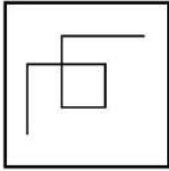
Option 3 ID : **264330528852**

Option 4 ID : **264330528854**

Status : **Answered**

Chosen Option : **2**

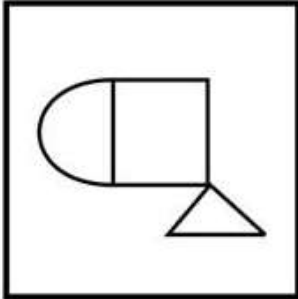
Q.11 उस विकल्प आकृति को चुनिए जिसमें दी गई आकृति (X) उसके भाग के रूप में निहित है (घूर्णन की अनुमति नहीं है)।



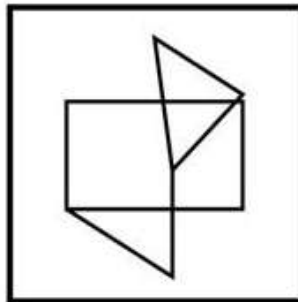
(X)

Ans

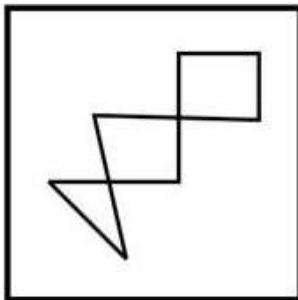
✗ 1.



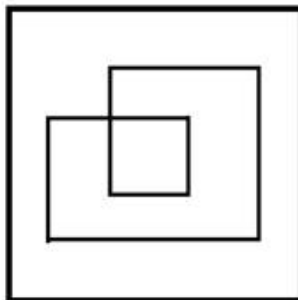
✗ 2.



✗ 3.



✓ 4.



Question Type : MCQ

Question ID : 264330134951

Option 1 ID : 264330528740

Option 2 ID : 264330528739

Option 3 ID : 264330528742

Option 4 ID : 264330528741

Status : Answered

Chosen Option : 4

Q.12 दो कथन दिए गए हैं और दो निष्कर्ष I और II दिए गए हैं। कथनों को सत्य मानते हुए, चाहे वे सामान्यतः ज्ञात तथ्यों से अलग प्रतीत होते हों, निश्चय कीजिए कि कौन-सा निष्कर्ष तार्किक रूप से कथनों के अनुसार है।

कथन:

कोई पेन, कागज़ नहीं है।

सभी कागज़, पेंसिल हैं।

निष्कर्ष:

I. कुछ पेन, पेंसिल हैं।

II. सभी पेंसिल, पेन हैं।

Ans

1. सिर्फ निष्कर्ष II कथनों के अनुसार है
2. निष्कर्ष I और II में से कोई भी कथनों के अनुसार नहीं है
3. सिर्फ निष्कर्ष I कथनों के अनुसार है
4. दोनों निष्कर्ष I और II कथनों के अनुसार है

Question Type : MCQ

Question ID : 264330134987

Option 1 ID : 264330528884

Option 2 ID : 264330528886

Option 3 ID : 264330528883

Option 4 ID : 264330528885

Status : Answered

Chosen Option : 4

Q.13 दी गई श्रृंखला में निम्नलिखित में से कौन-सी संख्या प्रश्न चिन्ह (?) के स्थान पर आएगी?

27, 32, 42, 57, 77, 102, 132, ?

Ans

1. 158
2. 149
3. 167
4. 172

Question Type : MCQ

Question ID : 264330134990

Option 1 ID : 264330528896

Option 2 ID : 264330528898

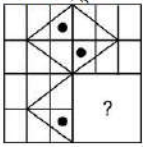
Option 3 ID : 264330528895

Option 4 ID : 264330528897

Status : Answered

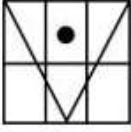
Chosen Option : 3

Q.14 उस विकल्प आकृति को चुनिए जो नीचे दी गई आकृति में पैटर्न को पूरा करने के लिए प्रश्न चिन्ह (?) के स्थान पर आएगी। (घूर्णन की अनुमति नहीं है)।

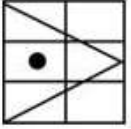


Ans

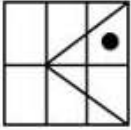
✗ 1.



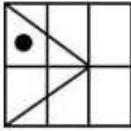
✗ 2.



✗ 3.



✓ 4.



Question Type : MCQ

Question ID : 264330134997

Option 1 ID : 264330528923

Option 2 ID : 264330528925

Option 3 ID : 264330528924

Option 4 ID : 264330528926

Status : Answered

Chosen Option : 4

Q.15 एक निश्चित कूट भाषा में, 'JOCKEY' को 'KCJYOE' लिखा जाता है। उस भाषा में 'EXCISE' को कैसे लिखा जाएगा?

Ans

✓ 1. ICEEXS

✗ 2. EEICSX

✗ 3. CLEXDE

✗ 4. ICEXES

Question Type : MCQ

Question ID : 264330137836

Option 1 ID : 264330539953

Option 2 ID : 264330539952

Option 3 ID : 264330539951

Option 4 ID : 264330539954

Status : Answered

Chosen Option : 1

Q.16 दी गई श्रृंखला में निम्नलिखित में से कौन-सा अक्षर-समूह प्रश्न चिन्ह (?) के स्थान पर आएगा?
CX, EV, GT, IR, KP, ?

- Ans
- 1. LN
 - 2. QR
 - 3. MN
 - 4. MK

Question Type : MCQ
Question ID : 264330134976
Option 1 ID : 264330528842
Option 2 ID : 264330528839
Option 3 ID : 264330528840
Option 4 ID : 264330528841
Status : Answered
Chosen Option : 3

Q.17 एक निश्चित कूट भाषा में, 'WIFE' को '172' लिखा जाता है और 'CAT' को '72' लिखा जाता है। उस भाषा में 'SON' को कैसे लिखा जाएगा?

- Ans
- 1. 241
 - 2. 144
 - 3. 141
 - 4. 244

Question Type : MCQ
Question ID : 264330137586
Option 1 ID : 264330538954
Option 2 ID : 264330538951
Option 3 ID : 264330538952
Option 4 ID : 264330538953
Status : Answered
Chosen Option : 4

Q.18 उस विकल्प को चुनिए जो तीसरे अक्षर से ठीक उसी तरह संबंधित है जिस तरह दूसरी संख्या पहले अक्षर से संबंधित है।
R : 324 :: I : ?

- Ans
- 1. 81
 - 2. 64
 - 3. 100
 - 4. 99

Question Type : MCQ
Question ID : 264330134978
Option 1 ID : 264330528847
Option 2 ID : 264330528849
Option 3 ID : 264330528850
Option 4 ID : 264330528848
Status : Answered
Chosen Option : 1

Q.19 पाँच मित्र टैम, टैन, टैप, टैब और टैट एक कतार में उत्तर की ओर मुख करके खड़े हैं। टैम, टैन के पीछे खड़ा है। टैप, टैट के ठीक पीछे खड़ा है। टैट और टैम के बीच केवल एक मित्र खड़ा है। टैब, टैम के ठीक पीछे खड़ा है। टैब कतार में सबसे पीछे खड़ा है। कतार में सबसे आगे कौन खड़ा है?

- Ans**
- 1. टैट
 - 2. टैन
 - 3. टैम
 - 4. टैप

Question Type : **MCQ**

Question ID : **264330134985**

Option 1 ID : **264330528875**

Option 2 ID : **264330528878**

Option 3 ID : **264330528876**

Option 4 ID : **264330528877**

Status : **Answered**

Chosen Option : **3**

Q.20 तीन कथन दिए गए हैं और दो निष्कर्ष I और II दिए गए हैं। कथनों को सत्य मानते हुए, चाहे वे सामान्यतः ज्ञात तथ्यों से अलग प्रतीत होते हों, निश्चय कीजिए कि कौन-सा निष्कर्ष तार्किक रूप से कथनों के अनुसार है।
कथन:

कोई भी छड़ी, बस नहीं है।

सभी विद्यालय, बसें हैं।

सभी बसें, बहादुर हैं।

निष्कर्ष:

I. कोई भी छड़ी, बहादुर नहीं है।

II. सभी विद्यालय, बहादुर हैं।

- Ans**
- 1. निष्कर्ष I और II में से कोई भी कथनों के अनुसार नहीं है
 - 2. सिर्फ निष्कर्ष II कथनों के अनुसार है
 - 3. सिर्फ निष्कर्ष I कथनों के अनुसार है
 - 4. दोनों निष्कर्ष I और II कथनों के अनुसार है

Question Type : **MCQ**

Question ID : **264330134988**

Option 1 ID : **264330528890**

Option 2 ID : **264330528888**

Option 3 ID : **264330528887**

Option 4 ID : **264330528889**

Status : **Answered**

Chosen Option : **2**

Section : **General Awareness**

Q.1 निम्नलिखित में से किस संगीतकार को 'सितार' बजाने के लिए जाना जाता है?

- Ans
- 1. अली अकबर खाँ
 - 2. विलायत खाँ
 - 3. ज़ाकिर हुसैन
 - 4. सुरोजीत चटर्जी

Question Type : MCQ

Question ID : 264330134662

Option 1 ID : 264330527604

Option 2 ID : 264330527603

Option 3 ID : 264330527606

Option 4 ID : 264330527605

Status : Answered

Chosen Option : 2

Q.2 निम्नलिखित में से कौन-सा संचारी रोगों का एक उदाहरण नहीं है?

- Ans
- 1. चेचक
 - 2. खाँसी-जुकाम
 - 3. मधुमेह
 - 4. क्षय रोग

Question Type : MCQ

Question ID : 264330134608

Option 1 ID : 264330527387

Option 2 ID : 264330527389

Option 3 ID : 264330527390

Option 4 ID : 264330527388

Status : Answered

Chosen Option : 2

Q.3 निम्नलिखित में से कौन-सा कथन गलत है?

- Ans
- 1. माइटोकॉन्ड्रिया कोशिका का बिजलीघर है।
 - 2. कोशिका झिल्ली को प्लाज्मा झिल्ली भी कहा जाता है।
 - 3. जंतुओं में कोशिका भित्ति पाई जाती है।
 - 4. क्रोमोसोम DNA तथा प्रोटीन के बने होते हैं।

Question Type : MCQ

Question ID : 264330134650

Option 1 ID : 264330527557

Option 2 ID : 264330527556

Option 3 ID : 264330527555

Option 4 ID : 264330527558

Status : Answered

Chosen Option : 3

Q.4 ब्रिटिश संसद ने सन् _____ में ईस्ट इंडिया कंपनी के सारे अधिकार ब्रिटिश साम्राज्य के हाथ में सौंप दिए।

- Ans
- 1. 1919
 - 2. 1909
 - 3. 1858
 - 4. 1773

Question Type : MCQ

Question ID : 264330134617

Option 1 ID : 264330527426

Option 2 ID : 264330527425

Option 3 ID : 264330527424

Option 4 ID : 264330527423

Status : Answered

Chosen Option : 4

Q.5 पौधों को वृद्धि के लिए पोषक तत्वों की आवश्यकता होती है जिसकी आपूर्ति _____ द्वारा की जा सकती है।

- Ans
- 1. केवल मिट्टी और वायु
 - 2. मिट्टी, जल और वायु
 - 3. केवल मिट्टी
 - 4. केवल मिट्टी और जल

Question Type : MCQ

Question ID : 264330134607

Option 1 ID : 264330527385

Option 2 ID : 264330527386

Option 3 ID : 264330527383

Option 4 ID : 264330527384

Status : Answered

Chosen Option : 2

Q.6 किस प्रसिद्ध भारतीय ओडिसी नृत्यांगना/नर्तक को वर्ष 2000 में भारत के दूसरे सर्वोच्च नागरिक पुरस्कार पद्म विभूषण से सम्मानित किया गया था?

- Ans
- 1. सुनंदा नायर
 - 2. केलुचरण महापात्र
 - 3. रुक्मिणी देवी अरुंडेल
 - 4. दर्शना झवेरी

Question Type : MCQ

Question ID : 264330137963

Option 1 ID : 264330540461

Option 2 ID : 264330540462

Option 3 ID : 264330540460

Option 4 ID : 264330540459

Status : Not Answered

Chosen Option : --

Q.7 सन् 1983 का क्रिकेट विश्व कप निम्नलिखित में से किस देश में आयोजित किया गया था?

- Ans
- 1. ऑस्ट्रेलिया
 - 2. इंग्लैंड
 - 3. भारत
 - 4. वेस्टइंडीज

Question Type : MCQ

Question ID : 264330134597

Option 1 ID : 264330527343

Option 2 ID : 264330527344

Option 3 ID : 264330527346

Option 4 ID : 264330527345

Status : Answered

Chosen Option : 2

Q.8 Which among the following is the sole note issuing authority in India?

- Ans
- 1. Industrial Finance Corporation of India
 - 2. Reserve Bank of India
 - 3. National Payments Corporation of India
 - 4. State Bank of India

Question Type : MCQ

Question ID : 264330137968

Option 1 ID : 264330540482

Option 2 ID : 264330540479

Option 3 ID : 264330540481

Option 4 ID : 264330540480

Status : Answered

Chosen Option : 2

Q.9 अंतर्राष्ट्रीय अलवण जल वर्ष किस वर्ष मनाया गया है?

- Ans
- 1. 2001
 - 2. 2000
 - 3. 2003
 - 4. 2002

Question Type : MCQ

Question ID : 264330134634

Option 1 ID : 264330527492

Option 2 ID : 264330527491

Option 3 ID : 264330527494

Option 4 ID : 264330527493

Status : Not Answered

Chosen Option : --

Q.10 भारतीय संविधान के अनुच्छेद 243-1 के तहत राज्य के राज्यपाल को प्रत्येक _____ वर्षों के बाद एक वित्त आयोग का गठन करना होता है।

- Ans
- ✓ 1. पाँच
 - ✗ 2. तीन
 - ✗ 3. दस
 - ✗ 4. छः

Question Type : MCQ
Question ID : 264330134665
Option 1 ID : 264330527615
Option 2 ID : 264330527616
Option 3 ID : 264330527618
Option 4 ID : 264330527617
Status : Answered
Chosen Option : 1

Q.11 "होला मोहल्ला (Hola Mohalla)" का त्यौहार किस समुदाय द्वारा मनाया जाता है?

- Ans
- ✓ 1. सिख
 - ✗ 2. बौद्ध
 - ✗ 3. पारसी
 - ✗ 4. जैन

Question Type : MCQ
Question ID : 264330134620
Option 1 ID : 264330527437
Option 2 ID : 264330527436
Option 3 ID : 264330527438
Option 4 ID : 264330527435
Status : Not Answered
Chosen Option : --

Q.12 "द ब्लू अम्ब्रेला (The blue umbrella)" प्रसिद्ध भारतीय लेखक _____ द्वारा लिखित एक उपन्यास है।

- Ans
- ✓ 1. रस्किन बॉन्ड
 - ✗ 2. अरुंधति राय
 - ✗ 3. शरत चंद्र चट्टोपाध्याय
 - ✗ 4. खुशवंत सिंह

Question Type : MCQ
Question ID : 264330137961
Option 1 ID : 264330540454
Option 2 ID : 264330540452
Option 3 ID : 264330540453
Option 4 ID : 264330540451
Status : Answered
Chosen Option : 2

Q.13 2022 में किस मंत्रालय ने 'काशी तमिल संगमम (Kashi Tamil Sangamam)' नामक महीने भर चलने वाले एक कार्यक्रम का आयोजन किया था?

- Ans
- ✓ 1. शिक्षा मंत्रालय
 - ✗ 2. विदेश मंत्रालय
 - ✗ 3. जनजातीय कार्य मंत्रालय
 - ✗ 4. संस्कृति मंत्रालय

Question Type : MCQ
Question ID : 264330134644
Option 1 ID : 264330527531
Option 2 ID : 264330527533
Option 3 ID : 264330527532
Option 4 ID : 264330527534
Status : Answered
Chosen Option : 4

Q.14 2022 तक, भारत दुनिया में गेहूँ का _____ सबसे बड़ा उत्पादक है।

- Ans
- ✗ 1. पाँचवाँ
 - ✓ 2. दूसरा
 - ✗ 3. तीसरा
 - ✗ 4. चौथा

Question Type : MCQ
Question ID : 264330137953
Option 1 ID : 264330540422
Option 2 ID : 264330540419
Option 3 ID : 264330540420
Option 4 ID : 264330540421
Status : Answered
Chosen Option : 3

Q.15 भारत किस पड़ोसी देश के साथ सुंदरबन वन साझा करता है?

- Ans
- ✓ 1. बांग्लादेश
 - ✗ 2. चीन
 - ✗ 3. नेपाल
 - ✗ 4. पाकिस्तान

Question Type : MCQ
Question ID : 264330137906
Option 1 ID : 264330540234
Option 2 ID : 264330540233
Option 3 ID : 264330540232
Option 4 ID : 264330540231
Status : Answered
Chosen Option : 1

Q.16 भारतीय संविधान की निम्नलिखित में से कौन-सी विशेषता ब्रिटेन के संविधान से ली गई थी?

- Ans
- ✓ 1. मंत्रिमंडलीय व्यवस्था
 - ✗ 2. समवर्ती सूची
 - ✗ 3. मौलिक कर्तव्य
 - ✗ 4. राज्य के नीति निर्देशक सिद्धांत

Question Type : MCQ
Question ID : 264330134664
Option 1 ID : 264330527611
Option 2 ID : 264330527613
Option 3 ID : 264330527614
Option 4 ID : 264330527612
Status : Answered
Chosen Option : 4

Q.17 साहित्य में 2022 का नोबेल पुरस्कार किसे मिला?

- Ans
- ✗ 1. अब्दुलराज़क गुरनाह (Abdulrazak Gurnah)
 - ✗ 2. ओल्गा टोकार्कज़ुक (Olga Tokarczuk)
 - ✓ 3. एनी एरनाक्स (Annie Ernaux)
 - ✗ 4. पीटर हैंडके (Peter Handke)

Question Type : MCQ
Question ID : 264330134602
Option 1 ID : 264330527365
Option 2 ID : 264330527363
Option 3 ID : 264330527364
Option 4 ID : 264330527366
Status : Answered
Chosen Option : 1

Q.18 'द गॉड ऑफ स्मॉल थिंग्स (The God of Small Things)' उपन्यास का लेखक कौन है?

- Ans
- ✗ 1. अरविंद अडिगा
 - ✗ 2. खुशवंत सिंह
 - ✗ 3. किरण देसाई
 - ✓ 4. अरुंधति राय

Question Type : MCQ
Question ID : 264330134599
Option 1 ID : 264330527353
Option 2 ID : 264330527352
Option 3 ID : 264330527351
Option 4 ID : 264330527354
Status : Answered
Chosen Option : 4

Q.19 'चरकुला (Charkula)' निम्नलिखित में से किस राज्य से संबंधित एक प्रसिद्ध नृत्य शैली है?

- Ans
- 1. आंध्रप्रदेश
 - 2. त्रिपुरा
 - 3. उत्तरप्रदेश
 - 4. तमिलनाडु

Question Type : MCQ
Question ID : 264330134646
Option 1 ID : 264330527539
Option 2 ID : 264330527540
Option 3 ID : 264330527542
Option 4 ID : 264330527541
Status : Answered
Chosen Option : 3

Q.20 निम्नलिखित में से किसने मैक्सिकन फॉर्मूला 1 ग्रैंड प्री 2022 जीता है?

- Ans
- 1. मैक्स वेस्टर्पेन (Max Verstappen)
 - 2. कार्लोस सैंज जूनियर (Carlos Sainz Jr.)
 - 3. लैंडो नॉरिस (Lando Norris)
 - 4. चार्ल्स लेक्लर (Charles Leclerc)

Question Type : MCQ
Question ID : 264330134666
Option 1 ID : 264330527619
Option 2 ID : 264330527620
Option 3 ID : 264330527622
Option 4 ID : 264330527621
Status : Answered
Chosen Option : 1

Q.21 2011 की जनगणना के अनुसार भारत में कुल प्रजनन दर (Total Fertility Rate) कितनी है? (अनुमानित सीमा प्रदान करें)

- Ans
- 1. 3.1-3.9
 - 2. 2.1-2.9
 - 3. 5.1-5.9
 - 4. 4.1-4.9

Question Type : MCQ
Question ID : 264330133967
Option 1 ID : 264330524892
Option 2 ID : 264330524891
Option 3 ID : 264330524894
Option 4 ID : 264330524893
Status : Not Answered
Chosen Option : --

Q.22 उत्तराखंड के गढ़वाल क्षेत्र में दूसरा सबसे ऊँचा पर्वत कौन-सा है?

- Ans
- ✓ 1. कामेट (Kamet)
 - ✗ 2. नंदा देवी (Nanda Devi)
 - ✗ 3. नीलकंठ (Nilkantha)
 - ✗ 4. मेरु (Meru)

Question Type : MCQ
Question ID : 264330134654
Option 1 ID : 264330527571
Option 2 ID : 264330527572
Option 3 ID : 264330527574
Option 4 ID : 264330527573
Status : Answered
Chosen Option : 2

Q.23 गुरु वेम्पति चिन्ना सत्यम को वर्ष 1998 में निम्नलिखित में से कौन-सा पुरस्कार मिला था?

- Ans
- ✗ 1. पद्म श्री
 - ✗ 2. भारत रत्न
 - ✗ 3. पद्म विभूषण
 - ✓ 4. पद्म भूषण

Question Type : MCQ
Question ID : 264330134601
Option 1 ID : 264330527361
Option 2 ID : 264330527360
Option 3 ID : 264330527362
Option 4 ID : 264330527359
Status : Answered
Chosen Option : 3

Q.24 निम्नलिखित में से किसने 2022 के राष्ट्रमंडल खेलों में भारोत्तोलन में स्वर्ण पदक जीता?

- Ans
- ✗ 1. बिंदियारानी देवी
 - ✗ 2. संकेत सागर
 - ✗ 3. विकास ठाकुर
 - ✓ 4. साइखोम मीराबाई चानू

Question Type : MCQ
Question ID : 264330134623
Option 1 ID : 264330527449
Option 2 ID : 264330527448
Option 3 ID : 264330527450
Option 4 ID : 264330527447
Status : Answered
Chosen Option : 4

Q.25 जब प्रकाश के पथ में कोई अपारदर्शी वस्तु आ जाती है तो निम्न में से क्या बनता है?

- Ans
- 1. पारदर्शी किरणें
 - 2. छाया
 - 3. पारभासी किरणें
 - 4. दर्पण प्रतिबिंब

Question Type : MCQ

Question ID : 264330134610

Option 1 ID : 264330527397

Option 2 ID : 264330527395

Option 3 ID : 264330527398

Option 4 ID : 264330527396

Status : Answered

Chosen Option : 4

Section : English Language and Comprehension

Q.1 A sentence has been given with a blank to be filled with an appropriate option. Choose the correct alternative.

The storm passed _____, but the night remained warm.

- Ans
- 1. quicker
 - 2. quick
 - 3. quickest
 - 4. quickly

Question Type : MCQ

Question ID : 264330134777

Option 1 ID : 264330528056

Option 2 ID : 264330528057

Option 3 ID : 264330528055

Option 4 ID : 264330528058

Status : Answered

Chosen Option : 4

Q.2 Choose the incorrectly spelt word.

- Ans
- 1. Maintaen
 - 2. Boring
 - 3. Gang
 - 4. Stupid

Question Type : MCQ

Question ID : 264330134793

Option 1 ID : 264330528118

Option 2 ID : 264330528115

Option 3 ID : 264330528116

Option 4 ID : 264330528117

Status : Answered

Chosen Option : 1

Q.3 Select the appropriate synonym for the underlined word.

There is no need to attack our guest.

- Ans
- 1. adore
 - 2. assault
 - 3. mark
 - 4. generate

Question Type : **MCQ**
Question ID : **264330134787**
Option 1 ID : **264330528092**
Option 2 ID : **264330528093**
Option 3 ID : **264330528091**
Option 4 ID : **264330528094**
Status : **Answered**
Chosen Option : 1

Q.4 Find the part of the given sentence that has an error in it. If there is no error, choose 'No error'.

No matter how mountains are formed, they eventually becomes too heavy and succumb to gravity.

- Ans
- 1. No matter how mountains are
 - 2. formed, they eventually becomes
 - 3. too heavy and succumb to gravity.
 - 4. No error

Question Type : **MCQ**
Question ID : **264330134773**
Option 1 ID : **264330528039**
Option 2 ID : **264330528040**
Option 3 ID : **264330528041**
Option 4 ID : **264330528042**
Status : **Answered**
Chosen Option : 1

Q.5 Choose the word that means the same as the given word.

Arrogance

- Ans
- 1. Bashful
 - 2. Diffidence
 - 3. Inhibition
 - 4. Dominance

Question Type : **MCQ**
Question ID : **264330134762**
Option 1 ID : **264330527998**
Option 2 ID : **264330527996**
Option 3 ID : **264330527997**
Option 4 ID : **264330527995**
Status : **Answered**
Chosen Option : 4

Q.6 Improve the underlined part of the sentence. Choose 'No improvement' as an answer if the sentence is grammatically correct.

The number of homes with running watered has been rising sharply since 1985.

- Ans**
- 1. with running water
 - 2. No improvement
 - 3. with run water
 - 4. of ran watered

Question Type : **MCQ**
Question ID : **264330134802**
Option 1 ID : **264330528152**
Option 2 ID : **264330528154**
Option 3 ID : **264330528151**
Option 4 ID : **264330528153**
Status : **Answered**
Chosen Option : **3**

Q.7 Identify the segment that contains a grammatical error. If there is no error, select 'No error'.

Before he could devote many more / thought to the matter, Pranav / had stepped up to him.

- Ans**
- 1. Before he could devote many more
 - 2. thought to the matter, Pranav
 - 3. had stepped up to him.
 - 4. No error

Question Type : **MCQ**
Question ID : **264330136240**
Option 1 ID : **264330533747**
Option 2 ID : **264330533748**
Option 3 ID : **264330533749**
Option 4 ID : **264330533750**
Status : **Answered**
Chosen Option : **1**

Q.8 A sentence has been given with a blank to be filled with an appropriate option. Choose the correct alternative.

Oak trees do not use leaves to make food _____ the winter.

- Ans**
- 1. within
 - 2. during
 - 3. by
 - 4. while

Question Type : **MCQ**
Question ID : **264330134752**
Option 1 ID : **264330527962**
Option 2 ID : **264330527960**
Option 3 ID : **264330527959**
Option 4 ID : **264330527961**
Status : **Answered**
Chosen Option : **2**

Q.9 Improve the underlined part of the sentence. Choose 'No improvement' as an answer if the sentence is grammatically correct.

Richard Dawkins written the foreword to the second edition of the book.

- Ans
- 1. No improvement
 - 2. wrote the foreword
 - 3. will wrote the foreword
 - 4. write the foreword

Question Type : MCQ
Question ID : 264330134453
Option 1 ID : 264330526786
Option 2 ID : 264330526784
Option 3 ID : 264330526785
Option 4 ID : 264330526783
Status : Answered
Chosen Option : 4

Q.10 Find the part of the given sentence that has an error in it. If there is no error, choose 'No error'.

Black holes can has powerful effects on their surroundings.

- Ans
- 1. on their surroundings.
 - 2. Black holes can
 - 3. has powerful effects
 - 4. No error

Question Type : MCQ
Question ID : 264330134425
Option 1 ID : 264330526677
Option 2 ID : 264330526675
Option 3 ID : 264330526676
Option 4 ID : 264330526678
Status : Answered
Chosen Option : 3

Q.11 In the following question, out of the given four alternatives, select the alternative which best expresses the meaning of the Idiom/Phrase.

Dead men's shoes

- Ans
- 1. Making oneself available for all the tasks being assigned
 - 2. Acquiring the wealth of a dead man through malpractices
 - 3. Job that one takes over from somebody who has left unexpectedly or died
 - 4. A career where a lot of cheques are signed

Question Type : MCQ
Question ID : 264330134792
Option 1 ID : 264330528111
Option 2 ID : 264330528114
Option 3 ID : 264330528113
Option 4 ID : 264330528112
Status : Answered
Chosen Option : 3

Q.12 Choose the word that can substitute the given group of words.

An exact copy of handwriting, printing

- Ans
- 1. Facsimile
 - 2. Potable
 - 3. Maiden
 - 4. Platitude

Question Type : MCQ
Question ID : 264330134786
Option 1 ID : 264330528089
Option 2 ID : 264330528088
Option 3 ID : 264330528090
Option 4 ID : 264330528087
Status : Answered
Chosen Option : 4

Q.13 Select the appropriate antonym for the underlined word.

The freedom to browse a secure and accountable online space will be compromised.

- Ans
- 1. liable
 - 2. indebted
 - 3. amicable
 - 4. irresponsible

Question Type : MCQ
Question ID : 264330134790
Option 1 ID : 264330528103
Option 2 ID : 264330528104
Option 3 ID : 264330528106
Option 4 ID : 264330528105
Status : Answered
Chosen Option : 2

Q.14 Choose the sentence with no spelling error.

- Ans
- 1. He stud outside the bathroom door.
 - 2. He stood outside the bathroom door.
 - 3. He stood outside the bathroom door.
 - 4. He stood outside the bathrum door.

Question Type : MCQ
Question ID : 264330134742
Option 1 ID : 264330527919
Option 2 ID : 264330527921
Option 3 ID : 264330527922
Option 4 ID : 264330527920
Status : Answered
Chosen Option : 3

Q.15 Select the word segment that substitutes (replaces) the bracketed word segment correctly and completes the sentence meaningfully. Select the option 'no correction required' if the sentence is correct as given.

The tourists (rendered to the) museum on time.

- Ans**
- 1. No correction required
 - 2. appeared at the
 - 3. arrived at the
 - 4. occurred to the

Question Type : **MCQ**
Question ID : **264330136243**
Option 1 ID : **264330533762**
Option 2 ID : **264330533759**
Option 3 ID : **264330533761**
Option 4 ID : **264330533760**
Status : **Answered**
Chosen Option : **3**

Q.16 Choose the word that can substitute the given group of words.

One who hates war, loves peace

- Ans**
- 1. Conformist
 - 2. Pacifist
 - 3. Fatalist
 - 4. Desecrater

Question Type : **MCQ**
Question ID : **264330134733**
Option 1 ID : **264330527885**
Option 2 ID : **264330527886**
Option 3 ID : **264330527884**
Option 4 ID : **264330527883**
Status : **Answered**
Chosen Option : **3**

Q.17 In the following question, out of the given four alternatives, select the alternative which best expresses the meaning of the Idiom/Phrase.

The lion's share

- Ans**
- 1. Life with no regrets
 - 2. To lose a big amount of money
 - 3. Big success
 - 4. The largest portion

Question Type : **MCQ**
Question ID : **264330134739**
Option 1 ID : **264330527908**
Option 2 ID : **264330527910**
Option 3 ID : **264330527909**
Option 4 ID : **264330527907**
Status : **Answered**
Chosen Option : **4**

Q.18 Choose the word that is opposite in meaning to the given word.

Lordly

- Ans
- 1. Arrogant
 - 2. Ignoble
 - 3. Saucy
 - 4. Despair

Question Type : MCQ

Question ID : 264330134763

Option 1 ID : 264330527999

Option 2 ID : 264330528000

Option 3 ID : 264330528001

Option 4 ID : 264330528002

Status : Answered

Chosen Option : 4

Q.19 Select the most appropriate option to fill in the blank.

The priest puts some _____ water on the child's head.

- Ans
- 1. wholly
 - 2. holy
 - 3. haughty
 - 4. hairy

Question Type : MCQ

Question ID : 264330134743

Option 1 ID : 264330527925

Option 2 ID : 264330527924

Option 3 ID : 264330527926

Option 4 ID : 264330527923

Status : Not Answered

Chosen Option : --

Q.20 Select the most appropriate option to fill in the blank.

Unless you complete your school education, you cannot get yourself _____ into a college.

- Ans
- 1. mopped
 - 2. enrolled
 - 3. advanced
 - 4. accommodated

Question Type : MCQ

Question ID : 264330134796

Option 1 ID : 264330528130

Option 2 ID : 264330528127

Option 3 ID : 264330528129

Option 4 ID : 264330528128

Status : Answered

Chosen Option : 3

Comprehension:

In the following passage some of the words have been deleted. Read the passage carefully and select the correct answer for the given blank out of the four alternatives.

In a gallery at the Metropolitan Museum of Art (1) _____ New York, paintings of a father and daughter (2) _____ face to face. Larger than life, the monumental portraits (3) _____ competing conceptions of royal power. The father, Henry VIII, (4) _____ directly at the viewer, conveying aggression through his wide stance, bulging leg muscles and (5) _____ padded clothing.

SubQuestion No : 21

Q.21 Select the most appropriate option to fill in blank number 1.

- Ans**
- 1. to
 - 2. at
 - 3. in
 - 4. on

Question Type : **MCQ**
Question ID : **264330134754**
Option 1 ID : **264330527963**
Option 2 ID : **264330527966**
Option 3 ID : **264330527965**
Option 4 ID : **264330527964**
Status : **Answered**
Chosen Option : **3**

Comprehension:

In the following passage some of the words have been deleted. Read the passage carefully and select the correct answer for the given blank out of the four alternatives.

In a gallery at the Metropolitan Museum of Art (1) _____ New York, paintings of a father and daughter (2) _____ face to face. Larger than life, the monumental portraits (3) _____ competing conceptions of royal power. The father, Henry VIII, (4) _____ directly at the viewer, conveying aggression through his wide stance, bulging leg muscles and (5) _____ padded clothing.

SubQuestion No : 22

Q.22 Select the most appropriate option to fill in blank number 2.

- Ans**
- 1. rest
 - 2. poised
 - 3. hanged
 - 4. hang

Question Type : **MCQ**
Question ID : **264330134755**
Option 1 ID : **264330527967**
Option 2 ID : **264330527970**
Option 3 ID : **264330527969**
Option 4 ID : **264330527968**
Status : **Answered**
Chosen Option : **1**

Comprehension:

In the following passage some of the words have been deleted. Read the passage carefully and select the correct answer for the given blank out of the four alternatives.

In a gallery at the Metropolitan Museum of Art (1) _____ New York, paintings of a father and daughter (2) _____ face to face. Larger than life, the monumental portraits (3) _____ competing conceptions of royal power. The father, Henry VIII, (4) _____ directly at the viewer, conveying aggression through his wide stance, bulging leg muscles and (5) _____ padded clothing.

SubQuestion No : 23

Q.23 Select the most appropriate option to fill in blank number 3.

- Ans
- 1. believe
 - 2. present
 - 3. settle
 - 4. sell

Question Type : **MCQ**

Question ID : **264330134756**

Option 1 ID : **264330527974**

Option 2 ID : **264330527973**

Option 3 ID : **264330527971**

Option 4 ID : **264330527972**

Status : **Answered**

Chosen Option : **2**

Comprehension:

In the following passage some of the words have been deleted. Read the passage carefully and select the correct answer for the given blank out of the four alternatives.

In a gallery at the Metropolitan Museum of Art (1) _____ New York, paintings of a father and daughter (2) _____ face to face. Larger than life, the monumental portraits (3) _____ competing conceptions of royal power. The father, Henry VIII, (4) _____ directly at the viewer, conveying aggression through his wide stance, bulging leg muscles and (5) _____ padded clothing.

SubQuestion No : 24

Q.24 Select the most appropriate option to fill in blank number 4.

- Ans
- 1. looks
 - 2. shocks
 - 3. books
 - 4. hooks

Question Type : **MCQ**

Question ID : **264330134757**

Option 1 ID : **264330527977**

Option 2 ID : **264330527975**

Option 3 ID : **264330527976**

Option 4 ID : **264330527978**

Status : **Answered**

Chosen Option : **1**

Comprehension:

In the following passage some of the words have been deleted. Read the passage carefully and select the correct answer for the given blank out of the four alternatives.

In a gallery at the Metropolitan Museum of Art (1) _____ New York, paintings of a father and daughter (2) _____ face to face. Larger than life, the monumental portraits (3) _____ competing conceptions of royal power. The father, Henry VIII, (4) _____ directly at the viewer, conveying aggression through his wide stance, bulging leg muscles and (5) _____ padded clothing.

SubQuestion No : 25

Q.25 Select the most appropriate option to fill in blank number 5.

- Ans**
- 1. acutely
 - 2. totally
 - 3. commonly
 - 4. excessively

Question Type : **MCQ**

Question ID : **264330134758**

Option 1 ID : **264330527981**

Option 2 ID : **264330527979**

Option 3 ID : **264330527980**

Option 4 ID : **264330527982**

Status : **Answered**

Chosen Option : **4**

Multi Tasking Non Technical Staff and Havaladar CBIC and CBN Examination 2022

Roll Number	KD Job Updates
Candidate Name	KD Job Updates
Venue Name	Markandey Mahadev Infotech Pvt Ltd
Exam Date	15/06/2023
Exam Time	3:30 PM - 5:00 PM
Subject	MTS Non Tech Havaladar CBIC and CBN Examination 2022

Section : Numerical and Mathematical Ability

Q.1 एक पंखे के विक्रय मूल्य का 40 प्रतिशत, पंखे के क्रय मूल्य के 4/5 के बराबर है। लाभ प्रतिशत क्या है?

- Ans
- 1. 150 प्रतिशत
 - 2. 125 प्रतिशत
 - 3. 120 प्रतिशत
 - 4. 100 प्रतिशत

Question Type : MCQ
Question ID : 264330140539
Option 1 ID : 264330550513
Option 2 ID : 264330550512
Option 3 ID : 264330550511
Option 4 ID : 264330550514
Status : Not Answered
Chosen Option : --

Q.2 एक संख्या में 20% की वृद्धि की जाती है और फिर बढी हुई संख्या में 20% की कमी की जाती है। निचल वृद्धि या कमी है:

- Ans
- 1. वृद्धि 2%
 - 2. कमी 4%
 - 3. कमी 2%
 - 4. वृद्धि 4%

Question Type : MCQ
Question ID : 264330140802
Option 1 ID : 264330551557
Option 2 ID : 264330551556
Option 3 ID : 264330551558
Option 4 ID : 264330551555
Status : Answered
Chosen Option : 2

Q.3 एक समचतुर्भुज का एक विकर्ण दूसरे विकर्ण का 70 प्रतिशत है। समचतुर्भुज के क्षेत्रफल और बड़े विकर्ण की लंबाई के वर्ग का अनुपात क्या है?

- Ans 1. 7 : 20
 2. 5 : 17
 3. 20 : 7
 4. 6 : 19

Question Type : MCQ
Question ID : 264330140577
Option 1 ID : 264330550662
Option 2 ID : 264330550661
Option 3 ID : 264330550659
Option 4 ID : 264330550660
Status : Not Answered
Chosen Option : --

Q.4 वह सबसे छोटी पूर्ण वर्ग संख्या क्या है, जो 12, 84 और 24 में से प्रत्येक से पूर्णतः विभाज्य है?

- Ans 1. 7056
 2. 1764
 3. 11664
 4. 2304

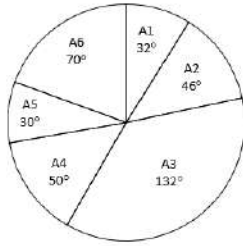
Question Type : MCQ
Question ID : 264330140548
Option 1 ID : 264330550549
Option 2 ID : 264330550550
Option 3 ID : 264330550547
Option 4 ID : 264330550548
Status : Answered
Chosen Option : 1

Q.5 Rs. 30 प्रति किलो मूल्य वाली चीनी को Rs. 40 प्रति किलो मूल्य वाली चीनी के साथ किस अनुपात में मिलाया जाना चाहिए ताकि प्राप्त मिश्रण का मूल्य Rs. 37 प्रति किलो हो जाए?

- Ans 1. 8 : 9
 2. 4 : 3
 3. 3 : 7
 4. 9 : 5

Question Type : MCQ
Question ID : 264330140541
Option 1 ID : 264330550521
Option 2 ID : 264330550519
Option 3 ID : 264330550522
Option 4 ID : 264330550520
Status : Answered
Chosen Option : 3

Q.6 नीचे दिए गए वृत्त आलेख में 6 अलग-अलग वस्तुओं के मूल्यों को दर्शाया गया है। इन सभी 6 वस्तुओं का कुल मूल्य 5040 है। इनमें से किसी एक विशिष्ट वस्तु के मूल्य को इन सभी 6 वस्तुओं के कुल मूल्य के सापेक्ष डिग्री में दर्शाया गया है।



निम्नलिखित में से कौन-सा कथन सही नहीं है?

I. A1, A2, A4 और A6 का कुल मूल्य 2772 है।

II. A3 और A5 के कुल मूल्य तथा A4 और A6 के कुल मूल्य के बीच का अंतर 488 है।

Ans

1. I और II दोनों

2. न तो I और न ही II

3. केवल I

4. केवल II

Question Type : MCQ

Question ID : 264330140552

Option 1 ID : 264330550565

Option 2 ID : 264330550566

Option 3 ID : 264330550563

Option 4 ID : 264330550564

Status : Answered

Chosen Option : 2

Q.7 0.25 और 1.25 का महत्तम समापवर्तक (HCF) क्या होगा?

Ans

1. 0.5

2. 1.25

3. 2.5

4. 0.25

Question Type : MCQ

Question ID : 264330140798

Option 1 ID : 264330551540

Option 2 ID : 264330551539

Option 3 ID : 264330551542

Option 4 ID : 264330551541

Status : Answered

Chosen Option : 1

Q.8 एक धनराशि को A, B और C के बीच 3:2:5 के अनुपात में बाँटा जाता है। Rs.126 में से C को कितनी धनराशि मिलेगी?

- Ans
- 1. Rs.66
 - 2. Rs.63
 - 3. Rs.62
 - 4. Rs.43

Question Type : MCQ

Question ID : 264330140808

Option 1 ID : 264330551581

Option 2 ID : 264330551579

Option 3 ID : 264330551582

Option 4 ID : 264330551580

Status : Answered

Chosen Option : 2

Q.9 एक धावक 10 km/hr की चाल से सुबह 5 : 00 बजे एक बिंदु से दौड़ना शुरू करता है। एक दूसरा धावक 15 km/hr की चाल से समान बिंदु से समान दिशा में सुबह 8 : 00 बजे दौड़ना शुरू करता है। दूसरा धावक उसी दिन के कितने बजे पहले धावक से आगे निकल जाएगा?

- Ans
- 1. दोपहर 12 : 30 बजे
 - 2. दोपहर 12 : 00 बजे
 - 3. दोपहर 1 : 00 बजे
 - 4. दोपहर 2 : 00 बजे

Question Type : MCQ

Question ID : 264330140155

Option 1 ID : 264330549001

Option 2 ID : 264330548999

Option 3 ID : 264330549002

Option 4 ID : 264330549000

Status : Not Answered

Chosen Option : --

Q.10 $\frac{91 + 13 \text{ of } (45 \div 21 \times 14 \div 5) - 22 \times 4}{(42 \times 21 \div 168 \times 2) - (66 \text{ of } 15 \div 90)}$ का मान क्या है?

- Ans
- 1. -162
 - 2. -172
 - 3. -81
 - 4. -144

Question Type : MCQ

Question ID : 264330140190

Option 1 ID : 264330549141

Option 2 ID : 264330549139

Option 3 ID : 264330549140

Option 4 ID : 264330549142

Status : Not Answered

Chosen Option : --

Q.11 एक नगर की जनसंख्या में 20 प्रतिशत वार्षिक की दर से वृद्धि होती है। यदि 2 वर्ष बाद नगर की जनसंख्या 69,120 होगी, तो नगर की वर्तमान जनसंख्या कितनी है?

- Ans
- 1. 40000
 - 2. 36000
 - 3. 48000
 - 4. 42000

Question Type : MCQ

Question ID : 264330139639

Option 1 ID : 264330546972

Option 2 ID : 264330546971

Option 3 ID : 264330546973

Option 4 ID : 264330546974

Status : Answered

Chosen Option : 3

Q.12 एक बस पहले घंटे में 60 km, दूसरे घंटे में 40 km और तीसरे घंटे में 50 km की यात्रा करती है। बस की औसत चाल क्या है?

- Ans
- 1. 55 km/hr
 - 2. 50 km/hr
 - 3. 45 km/hr
 - 4. 60 km/hr

Question Type : MCQ

Question ID : 264330140825

Option 1 ID : 264330551649

Option 2 ID : 264330551648

Option 3 ID : 264330551647

Option 4 ID : 264330551650

Status : Answered

Chosen Option : 2

Q.13 20 दिनों तक कार्य करने के बाद, शिखा को पता चलता है कि केवल 20 प्रतिशत कार्य ही पूरा हुआ है। वह टीना को नियुक्त करती है जो शिखा से 100 प्रतिशत अधिक कुशल है। टीना अकेले पूरे कार्य को कितने दिनों में पूरा कर सकती है?

- Ans
- 1. 30 दिन
 - 2. 50 दिन
 - 3. 40 दिन
 - 4. 60 दिन

Question Type : MCQ

Question ID : 264330139952

Option 1 ID : 264330548190

Option 2 ID : 264330548187

Option 3 ID : 264330548188

Option 4 ID : 264330548189

Status : Not Answered

Chosen Option : --

Q.14 यदि किसी बेलन की त्रिज्या में 16 प्रतिशत की कमी कर दी जाए, तो उसकी ऊँचाई में कितने प्रतिशत की वृद्धि करनी होगी, ताकि बेलन का आयतन वही रहे?

- Ans
- ✓ 1. 41.72 प्रतिशत
 - ✗ 2. 36.43 प्रतिशत
 - ✗ 3. 32.96 प्रतिशत
 - ✗ 4. 45.28 प्रतिशत

Question Type : MCQ
Question ID : 264330140576
Option 1 ID : 264330550658
Option 2 ID : 264330550657
Option 3 ID : 264330550655
Option 4 ID : 264330550656
Status : Answered
Chosen Option : 2

Q.15 एक कार का अंकित मूल्य Rs. 600000 है। राहुल उस कार को 30 प्रतिशत और 20 प्रतिशत की दो क्रमागत छूट पर खरीदता है। यदि कार का उपयोग करने के बाद, वह कार को Rs. 478000 में बेचता है, तो उसका लाभ प्रतिशत कितना है?

- Ans
- ✗ 1. 36.85 प्रतिशत
 - ✗ 2. 39.87 प्रतिशत
 - ✗ 3. 33.33 प्रतिशत
 - ✓ 4. 42.26 प्रतिशत

Question Type : MCQ
Question ID : 264330140595
Option 1 ID : 264330550732
Option 2 ID : 264330550731
Option 3 ID : 264330550733
Option 4 ID : 264330550734
Status : Answered
Chosen Option : 4

Q.16 यदि एक राशि का साधारण ब्याज पर निवेश किया जाता है, तो वह राशि 4 वर्ष में स्वयं की 3/2 हो जाती है। वार्षिक ब्याज दर क्या है?

- Ans
- ✗ 1. 6.5 प्रतिशत
 - ✗ 2. 10 प्रतिशत
 - ✓ 3. 12.5 प्रतिशत
 - ✗ 4. 17.5 प्रतिशत

Question Type : MCQ
Question ID : 264330140203
Option 1 ID : 264330549191
Option 2 ID : 264330549192
Option 3 ID : 264330549193
Option 4 ID : 264330549194
Status : Answered
Chosen Option : 3

Q.17 एक दुकानदार एक वस्तु को 20 प्रतिशत लाभ पर बेचता है। यदि उसने इसे 10 प्रतिशत कम मूल्य पर खरीदा होता और इसे Rs. 48 कम में बेचा होता, तो उसे 20 प्रतिशत का लाभ होता। वस्तु का क्रय मूल्य क्या है?

- Ans
- 1. Rs. 340
 - 2. Rs. 460
 - 3. Rs. 520
 - 4. Rs. 400

Question Type : **MCQ**

Question ID : **264330140220**

Option 1 ID : **264330549261**

Option 2 ID : **264330549259**

Option 3 ID : **264330549262**

Option 4 ID : **264330549260**

Status : **Answered**

Chosen Option : **3**

Q.18 B और C अकेले एक कार्य को क्रमशः 10 दिन और 30 दिन में पूरा कर सकते हैं। उन्होंने साथ मिलकर कार्य शुरू किया लेकिन B ने कुछ दिनों के बाद कार्य छोड़ दिया और C ने शेष कार्य को 10 दिनों में पूरा किया। कार्य की शुरुआत से कितने दिनों के बाद B ने कार्य छोड़ा?

- Ans
- 1. 6 दिन
 - 2. 4 दिन
 - 3. 8 दिन
 - 4. 5 दिन

Question Type : **MCQ**

Question ID : **264330140194**

Option 1 ID : **264330549157**

Option 2 ID : **264330549156**

Option 3 ID : **264330549158**

Option 4 ID : **264330549155**

Status : **Answered**

Chosen Option : **4**

Q.19 दो गई तालिका में वर्ष 2016 के एशियाई खेलों में चार अलग-अलग देशों द्वारा जीते गए पदकों की संख्या से संबंधित डेटा को दर्शाया गया है। चीन द्वारा जीते गए रजत पदकों की संख्या और भारत द्वारा जीते गए स्वर्ण पदकों की संख्या का अनुपात कितना है?

Country	Gold Medals	Silver Medals	Bronze Medals
China	31	36	36
India	18	22	28
Russia	26	16	25
Japan	10	18	15

Country- देश, Gold Medals- स्वर्ण पदक, Silver Medals- रजत पदक, Bronze Medals- कांस्य पदक

China- चीन, India- भारत, Russia- रूस, Japan- जापान

- Ans
- 1. 4:9
 - 2. 2:1
 - 3. 3:2
 - 4. 5:9

Question Type : MCQ

Question ID : 264330139052

Option 1 ID : 264330544817

Option 2 ID : 264330544816

Option 3 ID : 264330544815

Option 4 ID : 264330544818

Status : Answered

Chosen Option : 2

Q.20 40 परिणामों का औसत 15 है। यदि प्रत्येक परिणाम में से 5 घटा दिया जाए, तो परिणामों का नया औसत क्या होगा?

- Ans
- 1. 11
 - 2. 15
 - 3. 12
 - 4. 10

Question Type : MCQ

Question ID : 264330139914

Option 1 ID : 264330548035

Option 2 ID : 264330548036

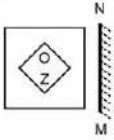
Option 3 ID : 264330548037

Option 4 ID : 264330548038

Status : Answered

Chosen Option : 4

Q.1 दी गई आकृति के उस सही दर्पण प्रतिबिंब को चुनिए जो दर्पण MN को आकृति के दाईं ओर रखने पर बनेगा।



Ans

✗ 1.



✗ 2.



✓ 3.



✗ 4.



Question Type : MCQ

Question ID : 264330140030

Option 1 ID : 264330548502

Option 2 ID : 264330548501

Option 3 ID : 264330548499

Option 4 ID : 264330548500

Status : Answered

Chosen Option : 3

Q.2 उस विकल्प को चुनिए जिसमें समुच्चय की संख्याएँ वही संबंध साझा करती हैं जो दिए गए समुच्चय में संख्याओं द्वारा साझा किया जाता है। (ध्यान दें: संख्याओं को उनके घटक अंकों में अलग-अलग किए बिना, पूर्ण संख्याओं पर संक्रियाएँ की जानी चाहिए। उदा. 13 - 13 पर संक्रियाएँ जैसे 13 को जोड़ना /घटाना /गुणा करना आदि किया जा सकता है। 13 को 1 और 3 में अलग-अलग करने की और फिर 1 और 3 पर गणितीय संक्रियाएँ करने की अनुमति नहीं है)

(20, 70, 120)

(120, 170, 220)

Ans

✗ 1. (320, 380, 420)

✗ 2. (420, 470, 530)

✗ 3. (220, 270, 330)

✓ 4. (420, 470, 520)

Question Type : MCQ

Question ID : 264330140970

Option 1 ID : 264330552229

Option 2 ID : 264330552228

Option 3 ID : 264330552227

Option 4 ID : 264330552230

Status : Answered

Chosen Option : 4

Q.3 उस विकल्प को चुनिए जो तीसरी संख्या से ठीक उसी प्रकार संबंधित है जिस प्रकार दूसरी संख्या पहली संख्या से संबंधित है।
289 : 306 :: 196 : ?

- Ans
- ✓ 1. 210
 - ✗ 2. 320
 - ✗ 3. 225
 - ✗ 4. 512

Question Type : MCQ

Question ID : 264330140004

Option 1 ID : 264330548395

Option 2 ID : 264330548396

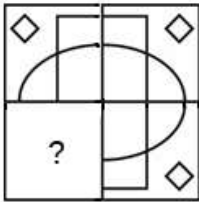
Option 3 ID : 264330548397

Option 4 ID : 264330548398

Status : Answered

Chosen Option : 1

Q.4 कौनसी उत्तर आकृति प्रश्न आकृति में दिए गए पैटर्न को पूरा करेगी?



Ans

- ✗ 1.
- ✓ 2.
- ✗ 3.
- ✗ 4.

Question Type : MCQ

Question ID : 264330139587

Option 1 ID : 264330546763

Option 2 ID : 264330546765

Option 3 ID : 264330546766

Option 4 ID : 264330546764

Status : Answered

Chosen Option : 2

Q.5 उस विकल्प को चुनिए जो तीसरे शब्द से ठीक उसी तरह संबंधित है जिस तरह दूसरा शब्द पहले शब्द से संबंधित है।
पीलिया : यकृत :: क्षय रोग : ?

- Ans
- ✓ 1. फेफड़े
 - ✗ 2. पैर
 - ✗ 3. आमाशय
 - ✗ 4. हृदय

Question Type : MCQ
Question ID : 264330140034
Option 1 ID : 264330548517
Option 2 ID : 264330548516
Option 3 ID : 264330548518
Option 4 ID : 264330548515
Status : Answered
Chosen Option : 1

Q.6 दी गई श्रृंखला में निम्नलिखित में से कौन-सी संख्या प्रश्न चिन्ह (?) के स्थान पर आएगी?
43, 51, 78, 142, 267, ?

- Ans
- ✓ 1. 483
 - ✗ 2. 493
 - ✗ 3. 473
 - ✗ 4. 463

Question Type : MCQ
Question ID : 264330140484
Option 1 ID : 264330550317
Option 2 ID : 264330550318
Option 3 ID : 264330550316
Option 4 ID : 264330550315
Status : Not Answered
Chosen Option : --

Q.7 आठ खिलाड़ी अनिल, कमल, राम, संजय, आकाश, विवेक, राहुल और रामू एक वृत्ताकार मेज के चारों ओर केंद्र की ओर मुख करके बैठे हैं (परंतु जरूरी नहीं कि वे इसी क्रम में बैठें हों)। संजय, अनिल के बाईं ओर से दूसरे स्थान पर है। राहुल, अनिल के दाईं ओर से चौथे स्थान पर है। राम, राहुल या संजय का निकटतम पड़ोसी नहीं है। आकाश, राम के दाईं ओर से दूसरे स्थान पर है। कमल, विवेक के दाईं ओर से दूसरे स्थान पर है। रामू के दाईं ओर से दूसरे स्थान पर कौन है?

- Ans
- ✗ 1. विवेक
 - ✓ 2. राहुल
 - ✗ 3. संजय
 - ✗ 4. कमल

Question Type : MCQ
Question ID : 264330140982
Option 1 ID : 264330552276
Option 2 ID : 264330552278
Option 3 ID : 264330552277
Option 4 ID : 264330552275
Status : Not Answered
Chosen Option : --

Q.8 दी गई श्रृंखला में निम्नलिखित में से कौन-सा अक्षर-समूह प्रश्न चिन्ह (?) के स्थान पर आएगा?
VY, ZC, DG, HK, ?

- Ans
- 1. LM
 - 2. MO
 - 3. LO
 - 4. LN

Question Type : MCQ
Question ID : 264330140432
Option 1 ID : 264330550108
Option 2 ID : 264330550110
Option 3 ID : 264330550107
Option 4 ID : 264330550109
Status : Answered
Chosen Option : 3

Q.9 एक निश्चित कूट भाषा में, 'ARMY' को 'CPOW' लिखा जाता है। उस भाषा में 'HALF' को कैसे लिखा जाएगा?

- Ans
- 1. JYMD
 - 2. JYND
 - 3. JDYN
 - 4. JNYD

Question Type : MCQ
Question ID : 264330140017
Option 1 ID : 264330548448
Option 2 ID : 264330548449
Option 3 ID : 264330548450
Option 4 ID : 264330548447
Status : Answered
Chosen Option : 2

Q.10 तीन कथन दिए गए हैं और दो निष्कर्ष I और II दिए गए हैं। कथनों को सत्य मानते हुए, चाहे वे सामान्यतः ज्ञात तथ्यों से अलग प्रतीत होते हों, निश्चय कीजिए कि कौन-सा निष्कर्ष तार्किक रूप से कथनों के अनुसार है।

कथन:

- कुछ किताबें, कलमें हैं।
- कुछ किताबें, कॉपियाँ हैं।
- सभी कॉपियाँ, पेंसिलें हैं।

निष्कर्ष:

- I. कुछ पेंसिलें, कलमें हैं।
- II. कुछ पेंसिलें, किताबें हैं।

- Ans
- 1. सिर्फ निष्कर्ष II कथनों के अनुसार है
 - 2. दोनों निष्कर्ष I और II कथनों के अनुसार हैं
 - 3. निष्कर्ष I और II में से कोई भी कथनों के अनुसार नहीं है
 - 4. सिर्फ निष्कर्ष I कथनों के अनुसार है

Question Type : MCQ
Question ID : 264330135358
Option 1 ID : 264330530340
Option 2 ID : 264330530341
Option 3 ID : 264330530342
Option 4 ID : 264330530339
Status : Answered
Chosen Option : 3

Q.11 दो कथन दिए गए हैं और दो निष्कर्ष I और II दिए गए हैं। कथनों को सत्य मानते हुए, चाहे वे सामान्यतः ज्ञात तथ्यों से अलग प्रतीत होते हों, निश्चय कीजिए कि कौन-सा निष्कर्ष तार्किक रूप से कथनों के अनुसार है।
कथन:
कोई बत्तख, गुड़िया नहीं है।
सभी अंडे, गुड़िया हैं।
निष्कर्ष:
I. कोई बत्तख, अंडा नहीं है।
II. कुछ गुड़िया, अंडे हैं।

- Ans
- ✓ 1. दोनों निष्कर्ष I और II कथनों के अनुसार हैं
 - ✗ 2. निष्कर्ष I और II में से कोई भी कथनों के अनुसार नहीं है
 - ✗ 3. सिर्फ निष्कर्ष II कथनों के अनुसार है
 - ✗ 4. सिर्फ निष्कर्ष I कथनों के अनुसार है

Question Type : MCQ
Question ID : 264330135357
Option 1 ID : 264330530337
Option 2 ID : 264330530338
Option 3 ID : 264330530336
Option 4 ID : 264330530335
Status : Answered
Chosen Option : 1

Q.12 पाँच लड़कियों अंजू, बिट्टू, चारुल, दृष्टि और सारा में सभी की उम्र अलग-अलग है। अंजू केवल दृष्टि और सारा से छोटी है। सारा दृष्टि से छोटी है और बिट्टू से बड़ी है। चारुल सबसे छोटी है। लड़कियों में चौथी सबसे बड़ी कौन है?

- Ans
- ✓ 1. बिट्टू
 - ✗ 2. सारा
 - ✗ 3. दृष्टि
 - ✗ 4. चारुल

Question Type : MCQ
Question ID : 264330140041
Option 1 ID : 264330548543
Option 2 ID : 264330548544
Option 3 ID : 264330548546
Option 4 ID : 264330548545
Status : Not Answered
Chosen Option : --

Q.13 यदि A का अर्थ 'जोड़', B का अर्थ 'गुणा', C का अर्थ 'घटाव' और D का अर्थ 'भाग' हो, तो निम्नलिखित समीकरण का मान क्या होगा?
 $8 B 4 A 7 C 21 = ?$

- Ans
- ✗ 1. 16
 - ✓ 2. 18
 - ✗ 3. 21
 - ✗ 4. 26

Question Type : MCQ
Question ID : 264330135364
Option 1 ID : 264330530364
Option 2 ID : 264330530366
Option 3 ID : 264330530363
Option 4 ID : 264330530365
Status : Answered
Chosen Option : 2

Q.14 नीचे दिए गए समीकरण में कौन-से गणितीय चिन्हों को आपस में बदला जाना चाहिए जिससे यह समीकरण गणितीय रूप से सही हो जाएगा?
 $45 - 5 + 96 + 8 \times 24 = 9$

- Ans
- 1. + और ×
 - 2. × और -
 - 3. ÷ और -
 - 4. + और -

Question Type : MCQ
Question ID : 264330140108
Option 1 ID : 264330548811
Option 2 ID : 264330548813
Option 3 ID : 264330548812
Option 4 ID : 264330548814
Status : Answered
Chosen Option : 1

Q.15 एक निश्चित कूट भाषा में, 'CASHEW' को 'WEHSAC' लिखा जाता है। उस कूट भाषा में 'FLORAL' को कैसे लिखा जाएगा?

- Ans
- 1. LAROFL
 - 2. LAORLF
 - 3. ALROLF
 - 4. LAROLF

Question Type : MCQ
Question ID : 264330138792
Option 1 ID : 264330543777
Option 2 ID : 264330543775
Option 3 ID : 264330543776
Option 4 ID : 264330543778
Status : Answered
Chosen Option : 4

Q.16 उस विकल्प को चुनिए जो तीसरे शब्द से ठीक उसी तरह संबंधित है जिस तरह दूसरा शब्द पहले शब्द से संबंधित है।
ताजमहल : आगरा :: कुतुब मीनार : ?

- Ans
- 1. मुंबई
 - 2. दिल्ली
 - 3. चेन्नई
 - 4. रांची

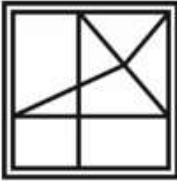
Question Type : MCQ
Question ID : 264330140135
Option 1 ID : 264330548922
Option 2 ID : 264330548920
Option 3 ID : 264330548919
Option 4 ID : 264330548921
Status : Answered
Chosen Option : 2

Q.17 उस विकल्प आकृति को चुनिए जिसमें दी गई आकृति निहित है।(घूर्णन की अनुमति नहीं है)

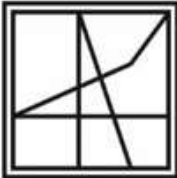


Ans


✗ 1.



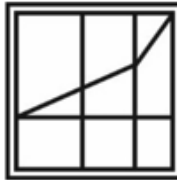
✗ 2.



✗ 3.



✓ 4.



Question Type : MCQ

Question ID : 264330139988

Option 1 ID : 264330548332

Option 2 ID : 264330548333

Option 3 ID : 264330548334

Option 4 ID : 264330548331

Status : Answered

Chosen Option : 4

Q.18 बाँब, ब्रान, बाँट, बटिस्टा और ब्राइन नाम के पाँच पुरुष एक परिधि में केंद्र की ओर मुख करके बैठे हैं। ब्राइन, बाँट के ठीक बाईं ओर और बाँब के ठीक दाईं ओर बैठा है। बटिस्टा, ब्राइन के बाईं ओर दूसरे स्थान पर बैठा है। ब्रान के ठीक दाईं ओर कौन बैठा है?

Ans

✓ 1. बटिस्टा

✗ 2. ब्राइन

✗ 3. बाँब

✗ 4. बाँट

Question Type : MCQ

Question ID : 264330139998

Option 1 ID : 264330548371

Option 2 ID : 264330548374

Option 3 ID : 264330548372

Option 4 ID : 264330548373

Status : Not Answered

Chosen Option : --

Q.19 एक निश्चित कूट भाषा में, 'SPEAKER' को '2613517' लिखा जाता है, 'TACKLE' को '934501' लिखा जाता है। उस कूट भाषा में 'PEACE' को कैसे लिखा जाएगा?

- Ans
- 1. 51341
 - 2. 61341
 - 3. 62342
 - 4. 61241

Question Type : MCQ

Question ID : 264330139532

Option 1 ID : 264330546546

Option 2 ID : 264330546544

Option 3 ID : 264330546545

Option 4 ID : 264330546543

Status : Answered

Chosen Option : 2

Q.20 दी गई श्रृंखला में निम्नलिखित में से कौन-सी संख्या प्रश्न चिन्ह (?) के स्थान पर आएगी?
71, 73, 76, 81, 88, 99, 112, ?

- Ans
- 1. 129
 - 2. 139
 - 3. 140
 - 4. 130

Question Type : MCQ

Question ID : 264330140023

Option 1 ID : 264330548472

Option 2 ID : 264330548471

Option 3 ID : 264330548474

Option 4 ID : 264330548473

Status : Answered

Chosen Option : 1

Section : General Awareness

Q.1 रामकृष्ण मिशन की स्थापना किसने की थी?

- Ans
- 1. तरुण सागर
 - 2. स्वामी विवेकानंद
 - 3. जम्बुविजय (Jambuvijaya)
 - 4. गौर गोपाल दास

Question Type : MCQ

Question ID : 264330140742

Option 1 ID : 264330551315

Option 2 ID : 264330551317

Option 3 ID : 264330551318

Option 4 ID : 264330551316

Status : Answered

Chosen Option : 2

Q.2 निम्नलिखित में से कौन सी पुस्तक मिताली राज की आत्मकथा है?

- Ans
- 1. नो होल्डिंग बैक (No Holding Back)
 - 2. वन मोर ओवर (One More Over)
 - 3. अनगार्डेड (Unguarded)
 - 4. ऑल राउंड व्यू (All Round View)

Question Type : MCQ
Question ID : 264330140359
Option 1 ID : 264330549818
Option 2 ID : 264330549815
Option 3 ID : 264330549817
Option 4 ID : 264330549816
Status : Answered
Chosen Option : 3

Q.3 मछलियों के हृदय में _____ कक्ष होता है / होते हैं।

- Ans
- 1. चार
 - 2. दो
 - 3. तीन
 - 4. एक

Question Type : MCQ
Question ID : 264330140281
Option 1 ID : 264330549506
Option 2 ID : 264330549504
Option 3 ID : 264330549505
Option 4 ID : 264330549503
Status : Answered
Chosen Option : 3

Q.4 निम्नलिखित में से किसे वर्ष 1956 में भारत सरकार द्वारा सभी मौजूदा निजी क्षेत्र की जीवन बीमा कंपनियों का राष्ट्रीयकरण करके स्थापित किया गया था?

- Ans
- 1. जनरल इश्योरेंस कारपोरेशन ऑफ इंडिया (General Insurance Corporation of India)
 - 2. न्यू इंडिया एश्योरेंस कंपनी लिमिटेड (New India Assurance Company Limited)
 - 3. यूनाइटेड इंडिया इश्योरेंस कंपनी लिमिटेड (United India Insurance Company Limited)
 - 4. भारतीय जीवन बीमा निगम (Life Insurance Corporation of India)

Question Type : MCQ
Question ID : 264330140725
Option 1 ID : 264330551247
Option 2 ID : 264330551250
Option 3 ID : 264330551248
Option 4 ID : 264330551249
Status : Answered
Chosen Option : 4

Q.5 2022 में संसद में पारित निम्नलिखित में से किस विधेयक ने 'बंदी पहचान अधिनियम, 1920' को प्रतिस्थापित किया है?

- Ans
- 1. चुनाव कानून (संशोधन) विधेयक
 - 2. कृषि कानून निरसन विधेयक
 - 3. केंद्रीय सतर्कता आयोग (संशोधन) विधेयक
 - 4. आपराधिक प्रक्रिया (पहचान) अधिनियम

Question Type : MCQ
Question ID : 264330140701
Option 1 ID : 264330551152
Option 2 ID : 264330551154
Option 3 ID : 264330551153
Option 4 ID : 264330551151
Status : Answered
Chosen Option : 4

Q.6 पंकज आडवाणी का संबंध किस खेल से है?

- Ans
- 1. बिलियर्ड्स
 - 2. शतरंज
 - 3. टेबल टेनिस
 - 4. गोल्फ

Question Type : MCQ
Question ID : 264330139677
Option 1 ID : 264330547125
Option 2 ID : 264330547123
Option 3 ID : 264330547124
Option 4 ID : 264330547126
Status : Answered
Chosen Option : 1

Q.7 वे वस्तुएँ जो एक निश्चित समय अंतराल के पश्चात् अपनी गति को दोहराती हैं, _____ में कहलाती हैं।

- Ans
- 1. वर्तुल गति
 - 2. आवर्ती गति
 - 3. सरल रेखीय गति
 - 4. अर्द्ध-वर्तुल गति

Question Type : MCQ
Question ID : 264330139689
Option 1 ID : 264330547172
Option 2 ID : 264330547171
Option 3 ID : 264330547173
Option 4 ID : 264330547174
Status : Answered
Chosen Option : 3

Q.8 चोल (Chola), चेर (Chera) और पांड्य (Pandyas) राजवंश भारत के किस प्राचीन काल के शासक थे?

- Ans
- 1. महाजनपद काल
 - 2. गुप्त काल
 - 3. मौर्य काल
 - 4. संगम काल

Question Type : MCQ

Question ID : 264330140689

Option 1 ID : 264330551104

Option 2 ID : 264330551106

Option 3 ID : 264330551103

Option 4 ID : 264330551105

Status : Answered

Chosen Option : 3

Q.9 1917 में किस भारतीय आंदोलन में पहली बार नील बागानों की समस्याओं को प्रकट किया गया?

- Ans
- 1. खेड़ा सत्याग्रह
 - 2. चंपारण आंदोलन
 - 3. असहयोग आंदोलन
 - 4. अहमदाबाद मिल हड़ताल

Question Type : MCQ

Question ID : 264330140741

Option 1 ID : 264330551313

Option 2 ID : 264330551311

Option 3 ID : 264330551314

Option 4 ID : 264330551312

Status : Answered

Chosen Option : 2

Q.10 एक राज्यसभा सदस्य का कार्यकाल कितने वर्षों का होता है?

- Ans
- 1. दो वर्ष
 - 2. छः वर्ष
 - 3. तीन वर्ष
 - 4. पाँच वर्ष

Question Type : MCQ

Question ID : 264330140672

Option 1 ID : 264330551035

Option 2 ID : 264330551038

Option 3 ID : 264330551037

Option 4 ID : 264330551036

Status : Answered

Chosen Option : 2

Q.11 भारतीय संविधान के 42वें संशोधन की प्रस्तावना में निम्नलिखित में से कौन-से शब्द जोड़े गए थे?

- Ans
- 1. गणतंत्र
 - 2. समाजवादी
 - 3. सार्वभौम
 - 4. लोकतांत्रिक

Question Type : MCQ
Question ID : 264330140337
Option 1 ID : 264330549730
Option 2 ID : 264330549728
Option 3 ID : 264330549727
Option 4 ID : 264330549729
Status : Answered
Chosen Option : 2

Q.12 निम्नलिखित में से कौन-सा भारत के महाराष्ट्र राज्य का एक प्रसिद्ध त्यौहार है?

- Ans
- 1. गुड़ी पड़वा
 - 2. ओणम
 - 3. छठ पूजा
 - 4. उगादि

Question Type : MCQ
Question ID : 264330140320
Option 1 ID : 264330549661
Option 2 ID : 264330549662
Option 3 ID : 264330549660
Option 4 ID : 264330549659
Status : Answered
Chosen Option : 1

Q.13 भारत के उत्तरी भाग में ग्रीष्मकाल में _____ होती है।

- Ans
- 1. वायु दाब में कमी
 - 2. तापमान में कमी
 - 3. भारी वर्षा
 - 4. वायु दाब में वृद्धि

Question Type : MCQ
Question ID : 264330140684
Option 1 ID : 264330551085
Option 2 ID : 264330551084
Option 3 ID : 264330551086
Option 4 ID : 264330551083
Status : Answered
Chosen Option : 4

Q.14 कथकली नृत्य शैली की उत्पत्ति निम्नलिखित में से किस राज्य में हुई है?

- Ans
- ✓ 1. केरल
 - ✗ 2. कर्नाटक
 - ✗ 3. तमिलनाडु
 - ✗ 4. उड़ीसा

Question Type : MCQ
Question ID : 264330140344
Option 1 ID : 264330549757
Option 2 ID : 264330549755
Option 3 ID : 264330549756
Option 4 ID : 264330549758
Status : Answered
Chosen Option : 1

Q.15 मध्ययुगीन शब्द "रक्स" का क्या अर्थ था?

- Ans
- ✗ 1. जाप
 - ✗ 2. अनुष्ठान
 - ✗ 3. गायन
 - ✓ 4. नृत्य

Question Type : MCQ
Question ID : 264330139888
Option 1 ID : 264330547931
Option 2 ID : 264330547934
Option 3 ID : 264330547932
Option 4 ID : 264330547933
Status : Answered
Chosen Option : 1

Q.16 एक खेल से संबंधित फिल्म, अज़हर (2016) निम्नलिखित में से किस खेल पर आधारित है?

- Ans
- ✗ 1. मिक्सड मार्शल आर्ट्स
 - ✓ 2. क्रिकेट
 - ✗ 3. हॉकी
 - ✗ 4. मुक्केबाज़ी

Question Type : MCQ
Question ID : 264330138949
Option 1 ID : 264330544406
Option 2 ID : 264330544405
Option 3 ID : 264330544404
Option 4 ID : 264330544403
Status : Answered
Chosen Option : 1

Q.17 किस भारतीय मंत्रालय ने जम्मू और कश्मीर पुनर्गठन विधेयक, 2019 पेश किया था?

- Ans
- 1. विदेश मंत्रालय
 - 2. संसदीय कार्य मंत्रालय
 - 3. गृह मंत्रालय
 - 4. रक्षा मंत्रालय

Question Type : MCQ
Question ID : 264330140368
Option 1 ID : 264330549853
Option 2 ID : 264330549854
Option 3 ID : 264330549852
Option 4 ID : 264330549851
Status : Answered
Chosen Option : 3

Q.18 नर्मदा नदी का उद्गम किस राज्य में स्थित अमरकंटक की पहाड़ियों से होता है?

- Ans
- 1. राजस्थान
 - 2. मध्यप्रदेश
 - 3. महाराष्ट्र
 - 4. गुजरात

Question Type : MCQ
Question ID : 264330139691
Option 1 ID : 264330547181
Option 2 ID : 264330547182
Option 3 ID : 264330547180
Option 4 ID : 264330547179
Status : Answered
Chosen Option : 2

Q.19 निम्नलिखित में से कौन कुचिपुडी नृत्य शैली से संबंधित नहीं है?

- Ans
- 1. वेम्पति चिन्ना सत्यम (Vempati Chinna Satyam)
 - 2. वैजयंती काशी (Vyjayanti Kashi)
 - 3. घनकांत बोरा बोरबायन (Ghanakanta Bora Borbayan)
 - 4. राधा रेड्डी

Question Type : MCQ
Question ID : 264330141065
Option 1 ID : 264330552608
Option 2 ID : 264330552609
Option 3 ID : 264330552610
Option 4 ID : 264330552607
Status : Answered
Chosen Option : 1

Q.20 _____ वे रक्त वाहिनियाँ हैं, जो कार्बन डाइऑक्साइड समृद्ध रक्त को वापस हृदय में ले जाती हैं।

- Ans
- 1. धमनियों
 - 2. तंत्रिका-कोशिकाएँ
 - 3. शिराएँ
 - 4. केशिकाएँ

Question Type : MCQ
Question ID : 264330140280
Option 1 ID : 264330549499
Option 2 ID : 264330549500
Option 3 ID : 264330549501
Option 4 ID : 264330549502
Status : Answered
Chosen Option : 1

Q.21 'स्वर्णिम चतुर्भुज (Golden quadrilateral)' निम्नलिखित में से किस शहर को नहीं जोड़ता है?

- Ans
- 1. दिल्ली
 - 2. चेन्नई
 - 3. मुंबई
 - 4. भोपाल

Question Type : MCQ
Question ID : 264330139765
Option 1 ID : 264330547475
Option 2 ID : 264330547478
Option 3 ID : 264330547476
Option 4 ID : 264330547477
Status : Answered
Chosen Option : 4

Q.22 बौद्ध स्थापत्यकला के स्मारकों में प्रार्थना कक्षों को _____ कहा जाता था।

- Ans
- 1. चैत्य गृह
 - 2. स्तूप
 - 3. विहार
 - 4. पिशतक

Question Type : MCQ
Question ID : 264330140321
Option 1 ID : 264330549663
Option 2 ID : 264330549664
Option 3 ID : 264330549665
Option 4 ID : 264330549666
Status : Answered
Chosen Option : 4

Q.23 निम्नलिखित में से कौन-सा भारतीय राज्य क्षेत्रफल की दृष्टि से सबसे बड़ा है?

- Ans 1. राजस्थान
 2. मध्यप्रदेश
 3. महाराष्ट्र
 4. उत्तरप्रदेश

Question Type : MCQ
Question ID : 264330139717
Option 1 ID : 264330547285
Option 2 ID : 264330547286
Option 3 ID : 264330547283
Option 4 ID : 264330547284
Status : Answered
Chosen Option : 1

Q.24 निम्नलिखित में से कौन एक वैश्विक ख्याति प्राप्त सितार वादक है?

- Ans 1. शाहिद परवेज़ खान
 2. विश्व मोहन भट्ट
 3. गिरिजा देवी
 4. बिस्मिल्लाह खान

Question Type : MCQ
Question ID : 264330138977
Option 1 ID : 264330544515
Option 2 ID : 264330544516
Option 3 ID : 264330544518
Option 4 ID : 264330544517
Status : Answered
Chosen Option : 4

Q.25 दस लाख की आबादी तक पहुँचने वाली प्रथम नगरीय बस्ती _____ थी।

- Ans 1. लंदन
 2. बर्लिन
 3. न्यूयॉर्क
 4. टोक्यो

Question Type : MCQ
Question ID : 264330138991
Option 1 ID : 264330544571
Option 2 ID : 264330544573
Option 3 ID : 264330544572
Option 4 ID : 264330544574
Status : Answered
Chosen Option : 1

Q.1 Fill in the blank with the most appropriate option.

I think she's right to warn you not to _____ your temper.

- Ans
- 1. last
 - 2. lose
 - 3. forget
 - 4. drop

Question Type : **MCQ**
Question ID : **264330136160**
Option 1 ID : **264330533439**
Option 2 ID : **264330533441**
Option 3 ID : **264330533440**
Option 4 ID : **264330533442**
Status : **Answered**
Chosen Option : **2**

Q.2 Choose the incorrectly spelt word.

- Ans
- 1. Magic
 - 2. Charity
 - 3. Station
 - 4. Contaxte

Question Type : **MCQ**
Question ID : **264330135252**
Option 1 ID : **264330529927**
Option 2 ID : **264330529929**
Option 3 ID : **264330529928**
Option 4 ID : **264330529930**
Status : **Answered**
Chosen Option : **4**

Q.3 Select the most appropriate word for the given group of words.

To reveal a secret

- Ans
- 1. Conceal
 - 2. Discern
 - 3. Divulge
 - 4. Vilify

Question Type : **MCQ**
Question ID : **264330136201**
Option 1 ID : **264330533598**
Option 2 ID : **264330533595**
Option 3 ID : **264330533596**
Option 4 ID : **264330533597**
Status : **Answered**
Chosen Option : **3**

Q.4 Select the word segment that substitutes (replaces) the bracketed word segment correctly and completes the sentence meaningfully. Select the option 'no correction required' if the sentence is correct as given.

(Most time) they didn't have enough to eat and went to bed hungry

Ans 1. No correction required

2. More times

3. Many a time

4. Many a times

Question Type : **MCQ**

Question ID : **264330135692**

Option 1 ID : **264330531662**

Option 2 ID : **264330531659**

Option 3 ID : **264330531661**

Option 4 ID : **264330531660**

Status : **Answered**

Chosen Option : **4**

Q.5 Identify the segment that contains a grammatical error. If there is no error, select 'No error'.

Leaders are self-direct, / but learning and understanding / are the keys to self-direction.

Ans 1. are the keys to self-direction.

2. Leaders are self-direct,

3. but learning and understanding

4. No error

Question Type : **MCQ**

Question ID : **264330135847**

Option 1 ID : **264330532257**

Option 2 ID : **264330532255**

Option 3 ID : **264330532256**

Option 4 ID : **264330532258**

Status : **Answered**

Chosen Option : **1**

Q.6 Identify the segment that contains a grammatical error. If there is no error, select 'No error'.

Do you have the faint / idea of what would happen / if Maa sees this?

Ans 1. No error

2. idea of what would happen

3. if Maa sees this?

4. Do you have the faint

Question Type : **MCQ**

Question ID : **264330136562**

Option 1 ID : **264330534986**

Option 2 ID : **264330534984**

Option 3 ID : **264330534985**

Option 4 ID : **264330534983**

Status : **Answered**

Chosen Option : **2**

Q.7 Select the most appropriate synonym of the given word.

Converge

- Ans
- 1. Verbiicide
 - 2. Coincide
 - 3. Fratricide
 - 4. Homicide

Question Type : **MCQ**
Question ID : **264330135835**
Option 1 ID : **264330532207**
Option 2 ID : **264330532208**
Option 3 ID : **264330532209**
Option 4 ID : **264330532210**
Status : **Answered**
Chosen Option : **2**

Q.8 Find the part of the given sentence that has an error in it. If there is no error, choose 'No error'.

Diseases passed from animals to humans are called zoonoses.

- Ans
- 1. animals to humans
 - 2. are called zoonoses.
 - 3. No error
 - 4. Diseases passed from

Question Type : **MCQ**
Question ID : **264330135153**
Option 1 ID : **264330529548**
Option 2 ID : **264330529549**
Option 3 ID : **264330529550**
Option 4 ID : **264330529547**
Status : **Answered**
Chosen Option : **4**

Q.9 Choose the sentence with no spelling error.

- Ans
- 1. Such bloms typically don't lead to deaths.
 - 2. Such blooms typically don't lead to deaths.
 - 3. Such blooms typiclyly don't lead to deaths.
 - 4. Such blooms typically don't leade to deaths.

Question Type : **MCQ**
Question ID : **264330135532**
Option 1 ID : **264330531033**
Option 2 ID : **264330531031**
Option 3 ID : **264330531032**
Option 4 ID : **264330531034**
Status : **Answered**
Chosen Option : **2**

Q.10 Select the most appropriate synonym to substitute the bracketed word in the given sentence.

I do not object to this (accolade) on the grounds that Edinburgh has little literary tradition.

- Ans**
- 1. Stubborn
 - 2. Criticism
 - 3. Indictment
 - 4. Praise

Question Type : **MCQ**
Question ID : **264330136760**
Option 1 ID : **264330535745**
Option 2 ID : **264330535746**
Option 3 ID : **264330535743**
Option 4 ID : **264330535744**
Status : **Answered**
Chosen Option : **4**

Q.11 Select the appropriate antonym for the underlined word.

What youthful philosophers and experimentalists we are!

- Ans**
- 1. unformed
 - 2. ripened
 - 3. childlike
 - 4. raw

Question Type : **MCQ**
Question ID : **264330135171**
Option 1 ID : **264330529617**
Option 2 ID : **264330529616**
Option 3 ID : **264330529615**
Option 4 ID : **264330529618**
Status : **Answered**
Chosen Option : **3**

Q.12 Improve the underlined part of the sentence. Choose 'No improvement' as an answer if the sentence is grammatically correct.

He had thrown the wrapper into the garbage.

- Ans**
- 1. has throwing the
 - 2. throw the
 - 3. thrown the
 - 4. No improvement

Question Type : **MCQ**
Question ID : **264330135156**
Option 1 ID : **264330529561**
Option 2 ID : **264330529559**
Option 3 ID : **264330529560**
Option 4 ID : **264330529562**
Status : **Answered**
Chosen Option : **4**

Q.13 Select the most appropriate antonym of the given word.

Reservation

Ans 1. Openness

2. Conserve

3. Catch

4. Doubt

Question Type : MCQ

Question ID : 264330136179

Option 1 ID : 264330533513

Option 2 ID : 264330533514

Option 3 ID : 264330533511

Option 4 ID : 264330533512

Status : Answered

Chosen Option : 1

Q.14 Choose the word that can substitute the given group of words.

A place for housing aeroplanes

Ans 1. Hutch

2. Brewery

3. Burrow

4. Hangar

Question Type : MCQ

Question ID : 264330135245

Option 1 ID : 264330529901

Option 2 ID : 264330529902

Option 3 ID : 264330529899

Option 4 ID : 264330529900

Status : Answered

Chosen Option : 4

Q.15 Select the most appropriate option to fill in the blank.

The life of the church seems, indeed, to have been in a more stagnant and _____ condition in this age than at any other period of English history.

Ans 1. torpid

2. truculent

3. tangential

4. expedite

Question Type : MCQ

Question ID : 264330136194

Option 1 ID : 264330533572

Option 2 ID : 264330533574

Option 3 ID : 264330533571

Option 4 ID : 264330533573

Status : Answered

Chosen Option : 2

Q.16 Select the most appropriate meaning of the given idiom.

Be at a crossroads

- Ans
- 1. To be confused
 - 2. To have forgotten the way
 - 3. To make a very important decision
 - 4. To have taken the wrong road

Question Type : MCQ

Question ID : 264330135761

Option 1 ID : 264330531925

Option 2 ID : 264330531923

Option 3 ID : 264330531924

Option 4 ID : 264330531926

Status : Answered

Chosen Option : 3

Q.17 A sentence has been given with a blank to be filled with an appropriate option. Choose the correct alternative.

I smiled at my son and _____ thankful.

- Ans
- 1. feel
 - 2. feeling
 - 3. fallen
 - 4. felt

Question Type : MCQ

Question ID : 264330135643

Option 1 ID : 264330531472

Option 2 ID : 264330531474

Option 3 ID : 264330531473

Option 4 ID : 264330531471

Status : Answered

Chosen Option : 2

Q.18 Fill in the blank with the most appropriate option.

As he walked past the chambers, Samir asked everyone to quiet _____.

- Ans
- 1. rise
 - 2. down
 - 3. please
 - 4. up

Question Type : MCQ

Question ID : 264330136185

Option 1 ID : 264330533538

Option 2 ID : 264330533537

Option 3 ID : 264330533536

Option 4 ID : 264330533535

Status : Answered

Chosen Option : 2

Q.19 In the following question, out of the given four alternatives, select the alternative which best expresses the meaning of the Idiom/Phrase.

To strain every nerve

- Ans**
- 1. To claim something
 - 2. To manipulate someone in the best way
 - 3. To make a great effort
 - 4. To go for physiotherapy

Question Type : **MCQ**
Question ID : **264330135173**
Option 1 ID : **264330529623**
Option 2 ID : **264330529625**
Option 3 ID : **264330529624**
Option 4 ID : **264330529626**
Status : **Answered**
Chosen Option : **2**

Q.20 Select the word segment that substitutes (replaces) the bracketed word segment correctly and completes the sentence meaningfully. Select the option 'no correction required' if the sentence is correct as given.

(Many man) have tried to find the caves but none have succeeded.

- Ans**
- 1. No correction required
 - 2. Many a man
 - 3. Many a men
 - 4. Much man

Question Type : **MCQ**
Question ID : **264330136270**
Option 1 ID : **264330533866**
Option 2 ID : **264330533865**
Option 3 ID : **264330533863**
Option 4 ID : **264330533864**
Status : **Answered**
Chosen Option : **2**

Comprehension:

In the following passage some words have been deleted. Fill in the blanks with the help of the alternatives given. Select the most appropriate option for each number.

Professor Sprout was standing (1) _____ a trestle bench in the centre of the greenhouse. (2) _____ twenty (3) _____ of different-coloured ear muffs (4) _____ lying on the bench. Harry (5) _____ his place between Ron and Hermione.

SubQuestion No : 21

Q.21 Select the most appropriate option to fill in blank number 1.

- Ans**
- 1. afterwards
 - 2. behind
 - 3. back off
 - 4. after back

Question Type : **MCQ**
Question ID : **264330136570**
Option 1 ID : **264330535014**
Option 2 ID : **264330535013**
Option 3 ID : **264330535011**
Option 4 ID : **264330535012**
Status : **Answered**
Chosen Option : **2**

Comprehension:

In the following passage some words have been deleted. Fill in the blanks with the help of the alternatives given. Select the most appropriate option for each number.

Professor Sprout was standing (1) _____ a trestle bench in the centre of the greenhouse. (2) _____ twenty (3) _____ of different-coloured ear muffs (4) _____ lying on the bench. Harry (5) _____ his place between Ron and Hermione.

SubQuestion No : 22

Q.22 Select the most appropriate option to fill in blank number 2.

- Ans**
- 1. About
 - 2. Round
 - 3. Utmost
 - 4. Near by

Question Type : **MCQ**
Question ID : **264330136571**
Option 1 ID : **264330535017**
Option 2 ID : **264330535016**
Option 3 ID : **264330535015**
Option 4 ID : **264330535018**
Status : **Answered**
Chosen Option : **1**

Comprehension:

In the following passage some words have been deleted. Fill in the blanks with the help of the alternatives given. Select the most appropriate option for each number.

Professor Sprout was standing (1) _____ a trestle bench in the centre of the greenhouse. (2) _____ twenty (3) _____ of different-coloured ear muffs (4) _____ lying on the bench. Harry (5) _____ his place between Ron and Hermione.

SubQuestion No : 23

Q.23 Select the most appropriate option to fill in blank number 3.

- Ans**
- 1. pairs
 - 2. teams
 - 3. duality
 - 4. couples

Question Type : **MCQ**
Question ID : **264330136572**
Option 1 ID : **264330535022**
Option 2 ID : **264330535020**
Option 3 ID : **264330535021**
Option 4 ID : **264330535019**
Status : **Answered**
Chosen Option : **1**

Comprehension:

In the following passage some words have been deleted. Fill in the blanks with the help of the alternatives given. Select the most appropriate option for each number.

Professor Sprout was standing (1) _____ a trestle bench in the centre of the greenhouse. (2) _____ twenty (3) _____ of different-coloured ear muffs (4) _____ lying on the bench. Harry (5) _____ his place between Ron and Hermione.

SubQuestion No : 24

Q.24 Select the most appropriate option to fill in blank number 4.

- Ans**
- 1. were
 - 2. continue
 - 3. lay
 - 4. was

Question Type : **MCQ**
Question ID : **264330136573**
Option 1 ID : **264330535023**
Option 2 ID : **264330535025**
Option 3 ID : **264330535026**
Option 4 ID : **264330535024**
Status : **Answered**
Chosen Option : **2**

Comprehension:

In the following passage some words have been deleted. Fill in the blanks with the help of the alternatives given. Select the most appropriate option for each number.

Professor Sprout was standing (1) _____ a trestle bench in the centre of the greenhouse. (2) _____ twenty (3) _____ of different-coloured ear muffs (4) _____ lying on the bench. Harry (5) _____ his place between Ron and Hermione.

SubQuestion No : 25

Q.25 Select the most appropriate option to fill in blank number 5.

- Ans**
- 1. have to take
 - 2. had taken
 - 3. has took
 - 4. have taken

Question Type : **MCQ**

Question ID : **264330136574**

Option 1 ID : **264330535027**

Option 2 ID : **264330535028**

Option 3 ID : **264330535030**

Option 4 ID : **264330535029**

Status : **Answered**

Chosen Option : **1**

Join Qmaths on Social Media:



Telegram Channel

<https://t.me/qmaths>



Facebook Page

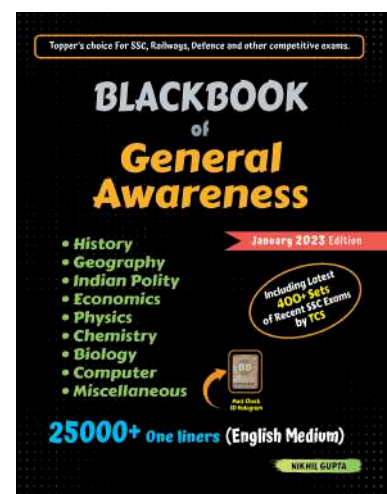

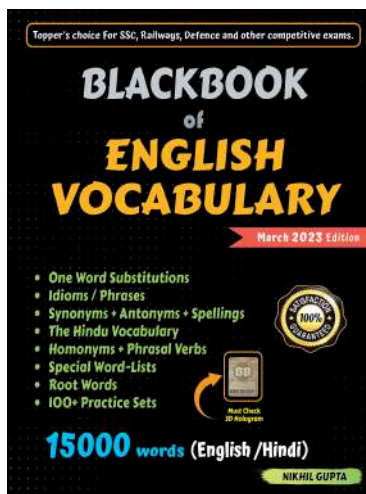
www.fb.com/Qmathsofficial/



YouTube Channel

www.youtube.com/QMaths_in/

Get the latest BlackBooks to Boost your Exam Preparation



Multi Tasking Non Technical Staff and Havaladar CBIC and CBN Examination 2022

Roll Number	KD Job Updates
Candidate Name	KD Job Updates
Venue Name	Uma Digital Online Mock And Assessment Centre
Exam Date	16/06/2023
Exam Time	9:00 AM - 10:30 AM
Subject	MTS Non Tech Havaladar CBIC and CBN Examination 2022

Section : Numerical and Mathematical Ability

Q.1 एक आदमी को नाव से 100 km दूर स्थित एक स्थान पर जाने और वापस आने में 10 घंटे का समय लगता है। वह समान समय में 12 km धारा के अनुकूल या 8 km धारा के प्रतिकूल नाव चला सकता है। धारा की चाल क्या है?

- Ans
- 1. (29/5) km/hr
 - 2. (23/8) km/hr
 - 3. (25/6) km/hr
 - 4. (20/9) km/hr

Question Type : MCQ
Question ID : 264330140241
Option 1 ID : 264330549346
Option 2 ID : 264330549345
Option 3 ID : 264330549343
Option 4 ID : 264330549344
Status : Answered
Chosen Option : 1

Q.2 दो नल P और Q अकेले एक टंकी को क्रमशः 10 घंटे और 12 घंटे में भर सकते हैं। यदि दोनों नलों को सुबह 9 बजे खोला जाए, तो ठीक दोपहर 3 बजे तक टंकी को पूरा भरने के लिए नल P को कितने बजे बंद करना होगा?

- Ans
- 1. दोपहर 1 बजे
 - 2. दोपहर 12 बजे
 - 3. दोपहर 2 बजे
 - 4. दोपहर 3 बजे

Question Type : MCQ
Question ID : 264330140534
Option 1 ID : 264330550492
Option 2 ID : 264330550493
Option 3 ID : 264330550491
Option 4 ID : 264330550494
Status : Answered
Chosen Option : 3

Q.3 एक मिश्रण में ऐल्कोहॉल (alcohol) और पानी का अनुपात क्रमशः 4 : 5 है। इसमें 20 लीटर पानी मिलाया जाता है। यदि नए मिश्रण में ऐल्कोहॉल और पानी का अनुपात क्रमशः 1 : 3 है, तो नए मिश्रण में ऐल्कोहॉल की कुल मात्रा कितनी है?

- Ans**
- 1. 90/11 लीटर
 - 2. 15 लीटर
 - 3. 60/7 लीटर
 - 4. 80/7 लीटर

Question Type : **MCQ**
Question ID : **264330140542**
Option 1 ID : **264330550524**
Option 2 ID : **264330550525**
Option 3 ID : **264330550523**
Option 4 ID : **264330550526**
Status : **Answered**
Chosen Option : **4**

Q.4 Rs. 8000 पर 15% वार्षिक दर पर 2 वर्षों का चक्रवृद्धि ब्याज ज्ञात कीजिए (वार्षिक रूप से संयोजित)।

- Ans**
- 1. Rs. 2580
 - 2. Rs. 2450
 - 3. Rs. 2400
 - 4. Rs. 2550

Question Type : **MCQ**
Question ID : **264330140810**
Option 1 ID : **264330551587**
Option 2 ID : **264330551589**
Option 3 ID : **264330551588**
Option 4 ID : **264330551590**
Status : **Answered**
Chosen Option : **1**

Q.5 एक व्यक्ति ने एक रूपए में 25 पेन की दर से कुछ पेन खरीदे और एक रूपए में 20 पेन की दर से बेच दिए। उसका लाभ प्रतिशत कितना है?

- Ans**
- 1. 25 प्रतिशत
 - 2. 30 प्रतिशत
 - 3. 15 प्रतिशत
 - 4. 10 प्रतिशत

Question Type : **MCQ**
Question ID : **264330140589**
Option 1 ID : **264330550707**
Option 2 ID : **264330550709**
Option 3 ID : **264330550708**
Option 4 ID : **264330550710**
Status : **Answered**
Chosen Option : **1**

Q.6 यदि $x : y : z = 2 : 3 : 4$, तो $7x : 3y : 2z$ का मान क्या है?

- Ans
- 1. 16 : 9 : 8
 - 2. 12 : 6 : 11
 - 3. 14 : 9 : 8
 - 4. 18 : 7 : 12

Question Type : MCQ

Question ID : 264330140221

Option 1 ID : 264330549264

Option 2 ID : 264330549265

Option 3 ID : 264330549266

Option 4 ID : 264330549263

Status : Answered

Chosen Option : 3

Q.7 एक कैलकुलेटर का अंकित मूल्य Rs.1600 है। इसे 28 प्रतिशत की छूट पर बेचा जाता है। यदि कैलकुलेटर का क्रय मूल्य Rs.700 है, तो लाभ का मूल्य क्या है?

- Ans
- 1. Rs.405
 - 2. Rs.438
 - 3. Rs.498
 - 4. Rs.452

Question Type : MCQ

Question ID : 264330139963

Option 1 ID : 264330548232

Option 2 ID : 264330548233

Option 3 ID : 264330548231

Option 4 ID : 264330548234

Status : Answered

Chosen Option : 4

Q.8 यदि x का x प्रतिशत 256 है, तो x का मान क्या है?

- Ans
- 1. 200
 - 2. 150
 - 3. 160
 - 4. 180

Question Type : MCQ

Question ID : 264330139633

Option 1 ID : 264330546948

Option 2 ID : 264330546947

Option 3 ID : 264330546949

Option 4 ID : 264330546950

Status : Answered

Chosen Option : 3

Q.9 एक आयताकार मेज़ के शीर्ष का परिमाण 42 मीटर है और इसका क्षेत्रफल 108 metre² है। इसके विकर्ण की लंबाई

कितनी है?

- Ans
- 1. 9 मीटर
 - 2. 15 मीटर
 - 3. 11 मीटर
 - 4. 12 मीटर

Question Type : MCQ

Question ID : 264330139925

Option 1 ID : 264330548082

Option 2 ID : 264330548079

Option 3 ID : 264330548081

Option 4 ID : 264330548080

Status : Answered

Chosen Option : 2

Q.10 एक वस्तु को 5 प्रतिशत हानि पर बेचा जाता है। यदि इसके क्रय मूल्य में Rs.20 की कमी की जाती है और विक्रय मूल्य में Rs.13 की वृद्धि की जाती है, तो इस पर 10 प्रतिशत का लाभ प्राप्त होता है। वस्तु का वास्तविक विक्रय मूल्य क्या है?

- Ans
- 1. Rs. 221.66
 - 2. Rs. 283.33
 - 3. Rs. 250
 - 4. Rs. 266.66

Question Type : MCQ

Question ID : 264330140160

Option 1 ID : 264330549020

Option 2 ID : 264330549022

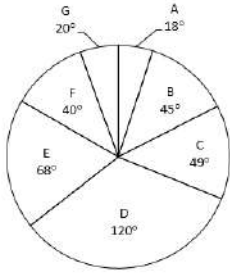
Option 3 ID : 264330549019

Option 4 ID : 264330549021

Status : Answered

Chosen Option : 4

Q.11 नीचे दिए गए वृत्त आलेख में 7 अलग-अलग कंपनियों की बिक्री को दर्शाया गया है। इन सभी 7 कंपनियों की कुल बिक्री 1440 है। इनमें से किसी एक विशिष्ट कंपनी की बिक्री को इन सभी 7 कंपनियों की कुल बिक्री के सापेक्ष डिग्री में दर्शाया गया है।



A और B की औसत बिक्री तथा D और E की औसत बिक्री का अनुपात क्या है?

- Ans**
- 1. 169 : 49
 - 2. 59 : 177
 - 3. 63 : 188
 - 4. 51 : 186

Question Type : **MCQ**

Question ID : **264330140192**

Option 1 ID : **264330549148**

Option 2 ID : **264330549147**

Option 3 ID : **264330549149**

Option 4 ID : **264330549150**

Status : **Answered**

Chosen Option : **3**

Q.12 A किसी कार्य को 48 दिनों में कर सकता है। कुल कार्य का कितना भाग A द्वारा 18 दिनों में पूरा किया जा सकता है?

- Ans**
- 1. 3/5
 - 2. 4/9
 - 3. 3/8
 - 4. 5/6

Question Type : **MCQ**

Question ID : **264330139588**

Option 1 ID : **264330546768**

Option 2 ID : **264330546769**

Option 3 ID : **264330546767**

Option 4 ID : **264330546770**

Status : **Answered**

Chosen Option : **3**

Q.13 दो बेलनों के आयतन का अनुपात 27 : 25 है और उनकी ऊँचाइयों का अनुपात 3 : 4 है। यदि दूसरे बेलन के आधार का क्षेत्रफल 3850 cm^2 है, तो पहले बेलन की विज्या कितनी होगी?

- Ans 1. 42 cm
 2. 34 cm
 3. 63 cm
 4. 56 cm

Question Type : MCQ

Question ID : 264330140596

Option 1 ID : 264330550737

Option 2 ID : 264330550738

Option 3 ID : 264330550736

Option 4 ID : 264330550735

Status : Answered

Chosen Option : 1

Q.14 $\left(\frac{21}{46} \div \frac{1}{6}\right)$ of $\frac{23}{42} + \frac{96}{576} \times \frac{24}{3} - \left(\frac{88}{56} \times \frac{7}{9} \div \frac{5}{36}\right)$ का मान क्या है?

- Ans 1. $-163/28$
 2. $5/2$
 3. $11/2$
 4. $-179/30$

Question Type : MCQ

Question ID : 264330139948

Option 1 ID : 264330548173

Option 2 ID : 264330548174

Option 3 ID : 264330548171

Option 4 ID : 264330548172

Status : Answered

Chosen Option : 4

Q.15 $11 \times 2 + (45 \div 9) + (72 \div 8) - 5 + 4$ का मान है :

- Ans 1. 32
 2. 40
 3. 41
 4. 35

Question Type : MCQ

Question ID : 264330140796

Option 1 ID : 264330551532

Option 2 ID : 264330551534

Option 3 ID : 264330551533

Option 4 ID : 264330551531

Status : Answered

Chosen Option : 4

Q.16 7 क्रमागत विषम संख्याओं का औसत A है। यदि अगली 3 और पिछली 2 विषम संख्याओं को भी इन 7 विषम

संख्याओं में शामिल कर लिया जाए, तो इन 12 क्रमागत विषम संख्याओं का नया औसत क्या है?

- Ans
- 1. $A - 2$
 - 2. $A + 3$
 - 3. $A + 1$
 - 4. $A + 2$

Question Type : MCQ

Question ID : 264330139895

Option 1 ID : 264330547959

Option 2 ID : 264330547962

Option 3 ID : 264330547961

Option 4 ID : 264330547960

Status : Answered

Chosen Option : 3

Q.17 निम्नलिखित तालिका का अध्ययन करें और उत्तर दें। किस वर्ष में कंपनी ने ईंधन और परिवहन (fuel and transport) पर न्यूनतम खर्च किया?

Year	Item of Expenditure				
	Salary	Fuel and Transport	Bonus	Interest on Loans	Taxes
2001	288	198	3	23.4	83
2002	342	112	2.52	32.5	108
2003	324	91	3.84	41.6	74
2004	336	98	3.68	36.4	88
2005	420	142	3.96	49.4	98

Item of Expenditure - वस्तुएँ जिन पर खर्च किया गया है , Year - वर्ष, Salary - वेतन, Fuel and Transport - ईंधन और परिवहन, Bonus - बोनस, Interests on loans - ऋण पर ब्याज, Taxes - कर

- Ans
- 1. 2003
 - 2. 2000
 - 3. 2001
 - 4. 2002

Question Type : MCQ

Question ID : 264330140815

Option 1 ID : 264330551610

Option 2 ID : 264330551607

Option 3 ID : 264330551608

Option 4 ID : 264330551609

Status : Answered

Chosen Option : 1

Q.18 एक निश्चित राशि पर 3 वर्ष के लिए 20 प्रतिशत वार्षिक दर से साधारण ब्याज और चक्रवृद्धि ब्याज (ब्याज का संयोजन वार्षिक रूप से किया जाता है) के बीच का अंतर Rs. 192 है। वह राशि क्या है?

- Ans
- 1. Rs. 1400
 - 2. Rs. 1200
 - 3. Rs. 1500
 - 4. Rs. 1000

Question Type : MCQ

Question ID : 264330140224

Option 1 ID : 264330549276

Option 2 ID : 264330549278

Option 3 ID : 264330549277

Option 4 ID : 264330549275

Status : Answered

Chosen Option : 3

Q.19 $\frac{11 \times 11 - 24 \times 6 \div 2 + 12 \times 12}{4 \times 5 + 6 \times 2 \div 4}$ का मान क्या है?

- Ans
- 1. 2
 - 2. -1
 - 3. -2
 - 4. 1

Question Type : MCQ

Question ID : 264330140229

Option 1 ID : 264330549298

Option 2 ID : 264330549296

Option 3 ID : 264330549295

Option 4 ID : 264330549297

Status : Answered

Chosen Option : 2

Q.20 एक दुकानदार को Rs.30 और Rs.20 प्रति किलोग्राम मूल्य वाली मिठाइयों की दो किस्मों को किस अनुपात में मिलाना चाहिए, जिससे Rs.25 प्रति किलोग्राम मूल्य वाला मिश्रण प्राप्त हो?

- Ans
- 1. 1:1
 - 2. 2:3
 - 3. 5:4
 - 4. 4:5

Question Type : MCQ

Question ID : 264330133739

Option 1 ID : 264330523979

Option 2 ID : 264330523980

Option 3 ID : 264330523982

Option 4 ID : 264330523981

Status : Answered

Chosen Option : 1

Q.1 एक निश्चित कूट भाषा में, 'SETTLE' को 'DLSTDS' लिखा जाता है। उस कूट भाषा में 'STRUCK' को कैसे लिखा जाएगा?

- Ans
- ✓ 1. JCTRSS
 - ✗ 2. JTCRSS
 - ✗ 3. JCTSRS
 - ✗ 4. JCTRST

Question Type : MCQ

Question ID : 264330139976

Option 1 ID : 264330548285

Option 2 ID : 264330548283

Option 3 ID : 264330548284

Option 4 ID : 264330548286

Status : Answered

Chosen Option : 1

Q.2 दी गई श्रृंखला में निम्नलिखित में से कौन-सी संख्या प्रश्न चिन्ह (?) के स्थान पर आएगी?
61, 65, 73, 85, 101, ?

- Ans
- ✗ 1. 123
 - ✓ 2. 121
 - ✗ 3. 120
 - ✗ 4. 119

Question Type : MCQ

Question ID : 264330140104

Option 1 ID : 264330548797

Option 2 ID : 264330548796

Option 3 ID : 264330548798

Option 4 ID : 264330548795

Status : Answered

Chosen Option : 2

Q.3 G, H, I, J और K एक वृत्ताकार मेज के चारों ओर केंद्र की ओर मुख करके बैठे हैं। G, H के ठीक दाईं ओर बैठा है। J, K और H के बीच में बैठा है। K के ठीक बाईं ओर कौन बैठा है?

- Ans
- ✗ 1. H
 - ✓ 2. I
 - ✗ 3. J
 - ✗ 4. G

Question Type : MCQ

Question ID : 264330140139

Option 1 ID : 264330548936

Option 2 ID : 264330548937

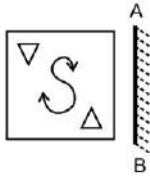
Option 3 ID : 264330548938

Option 4 ID : 264330548935

Status : Answered

Chosen Option : 2

Q.4 दी गई आकृति के उस सही दर्पण प्रतिबिंब को चुनिए जो दर्पण को नीचे दर्शाए गए अनुसार AB पर रखने पर बनेगा।



Ans

✓ 1.



✗ 2.



✗ 3.



✗ 4.



Question Type : MCQ

Question ID : 264330140091

Option 1 ID : 264330548746

Option 2 ID : 264330548743

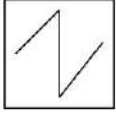
Option 3 ID : 264330548744

Option 4 ID : 264330548745

Status : Answered

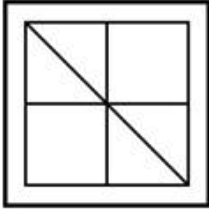
Chosen Option : 1

Q.5 उस विकल्प आकृति को चुनिए जिसमें दी गई आकृति इसके भाग के रूप में निहित है। (घूर्णन की अनुमति नहीं है)।

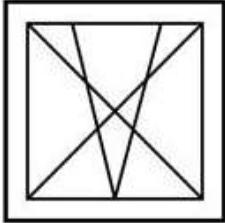


Ans

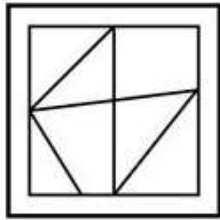
✗ 1.



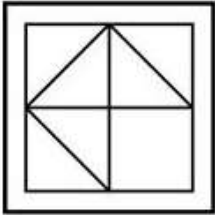
✗ 2.



✓ 3.



✗ 4.



Question Type : MCQ

Question ID : 264330138805

Option 1 ID : 264330543827

Option 2 ID : 264330543830

Option 3 ID : 264330543829

Option 4 ID : 264330543828

Status : Answered

Chosen Option : 3

Q.6 पाँच छात्रों विराट, कमल, अनिल, संजय और राहुल के अंकों की तुलना की जाती है। कोई भी दो छात्रों के अंक समान नहीं हैं। अनिल के अंक केवल दो छात्रों से कम हैं। कमल के अंक किसी भी छात्र से कम नहीं हैं। संजय के अंक अनिल से अधिक और कमल से कम हैं। यदि राहुल के अंक विराट के अंक से अधिक हैं, तो कितने छात्रों के अंक विराट के अंकों से कम हैं?

Ans ✗ 1. 1

✗ 2. 3

✓ 3. 0

✗ 4. 2

Question Type : MCQ

Question ID : 264330139536

Option 1 ID : 264330546559

Option 2 ID : 264330546561

Option 3 ID : 264330546562

Option 4 ID : 264330546560

Status : Answered

Chosen Option : 3

Q.7 एक निश्चित कूट भाषा में, 'MAPS' को '49' और 'SOLD' को '50' लिखा जाता है। उस भाषा में 'KIDS' को कैसे लिखा जाएगा?

- Ans
- 1. 44
 - 2. 43
 - 3. 42
 - 4. 45

Question Type : MCQ
Question ID : 264330140096
Option 1 ID : 264330548764
Option 2 ID : 264330548765
Option 3 ID : 264330548763
Option 4 ID : 264330548766
Status : Answered
Chosen Option : 2

Q.8 एक निश्चित कूट भाषा में, 'LABOR' को 'RALOB' लिखा जाता है। उस कूट भाषा में 'EARLY' को कैसे लिखा जाएगा?

- Ans
- 1. YALER
 - 2. YAE LR
 - 3. YAERL
 - 4. ZAE LR

Question Type : MCQ
Question ID : 264330138771
Option 1 ID : 264330543691
Option 2 ID : 264330543692
Option 3 ID : 264330543693
Option 4 ID : 264330543694
Status : Answered
Chosen Option : 2


Q.9 उस विकल्प को चुनिए जो तीसरे शब्द से ठीक उसी प्रकार संबंधित है जिस प्रकार दूसरा शब्द पहले शब्द से संबंधित है।

मिजोरम : आइजोल (Aizawl) :: तेलंगाना : ?

- Ans
- 1. चेन्नई
 - 2. बेंगलोर
 - 3. जयपुर
 - 4. हैदराबाद

Question Type : MCQ
Question ID : 264330137582
Option 1 ID : 264330538936
Option 2 ID : 264330538938
Option 3 ID : 264330538937
Option 4 ID : 264330538935
Status : Answered
Chosen Option : 4

Q.10 कौन-सी उत्तर आकृति प्रश्न आकृति में दिए गए पैटर्न को पूरा करेगी?



Ans

✗ 1.



✓ 2.



✗ 3.



✗ 4.



Question Type : MCQ

Question ID : 264330139547

Option 1 ID : 264330546604

Option 2 ID : 264330546605

Option 3 ID : 264330546606

Option 4 ID : 264330546603

Status : Answered

Chosen Option : 4

Q.11 D, N, U, L और O एक सीधी रेखा में उत्तर की ओर मुख करके खड़े हैं। N, D के ठीक दाईं ओर खड़ा है, जो एक छोर पर खड़ा है। O, L के ठीक बाईं ओर खड़ा है, जो छोर पर नहीं खड़ा है। O के ठीक बाईं ओर कौन खड़ा है?

- Ans
- 1. U
 - 2. N
 - 3. L
 - 4. D

Question Type : MCQ

Question ID : 264330135355

Option 1 ID : 264330530330

Option 2 ID : 264330530328

Option 3 ID : 264330530329

Option 4 ID : 264330530327

Status : Answered

Chosen Option : 2

Q.12 उस विकल्प को चुनिए जो तीसरी संख्या से ठीक उसी तरह संबंधित है जिस तरह दूसरी संख्या पहली संख्या से संबंधित है।

441 : 485 :: 676 : ?

- Ans
- 1. 730
 - 2. 1030
 - 3. 729
 - 4. 740

Question Type : MCQ

Question ID : 264330140126

Option 1 ID : 264330548884

Option 2 ID : 264330548883

Option 3 ID : 264330548885

Option 4 ID : 264330548886

Status : Answered

Chosen Option : 1

Q.13 दी गई श्रृंखला में निम्नलिखित में से कौन-सा अक्षर-समूह प्रश्न चिन्ह (?) के स्थान पर आएगा?
FT, IR, LP, ON, RL, UJ, ?

- Ans
- 1. XH
 - 2. MK
 - 3. FN
 - 4. HW

Question Type : MCQ

Question ID : 264330140133

Option 1 ID : 264330548914

Option 2 ID : 264330548913

Option 3 ID : 264330548911

Option 4 ID : 264330548912

Status : Answered

Chosen Option : 1

Q.14 निम्नलिखित प्रश्न में, दी गई श्रृंखला में लुप्त संख्या को चुनिए ।

40, 43, 52, 79, 160, ?

- Ans
- 1. 415
 - 2. 413
 - 3. 410
 - 4. 403

Question Type : MCQ
Question ID : 264330140065
Option 1 ID : 264330548641
Option 2 ID : 264330548642
Option 3 ID : 264330548640
Option 4 ID : 264330548639
Status : Answered
Chosen Option : 4

Q.15 किन दो संख्याओं को आपस में बदलने के बाद, दिए गए समीकरण का मान '30' होगा?

$$8 \times 1 - 9 \div 3 + 4$$

- Ans
- 1. 3 और 9
 - 2. 1 और 4
 - 3. 8 और 4
 - 4. 4 और 3

Question Type : MCQ
Question ID : 264330140971
Option 1 ID : 264330552231
Option 2 ID : 264330552233
Option 3 ID : 264330552234
Option 4 ID : 264330552232
Status : Answered
Chosen Option : 2

Q.16 दो कथन दिए गए हैं और दो निष्कर्ष I और II दिए गए हैं। कथनों को सत्य मानते हुए, चाहे वे सामान्यतः ज्ञात तथ्यों से अलग प्रतीत होते हों, निश्चय कीजिए कि कौन-सा निष्कर्ष तार्किक रूप से कथनों के अनुसार है।

कथन:

कुछ घड़ियाँ, मक्का हैं।

सभी मक्के, लकड़ियाँ हैं।

निष्कर्ष:

I. कुछ घड़ियाँ, लकड़ियाँ हैं।

II. कुछ लकड़ियाँ, मक्का हैं।

Ans

1. सिर्फ निष्कर्ष II कथनों के अनुसार है
2. सिर्फ निष्कर्ष I कथनों के अनुसार है
3. दोनों निष्कर्ष I और II कथनों के अनुसार हैं
4. निष्कर्ष I और II में से कोई भी कथनों के अनुसार नहीं है

Question Type : MCQ

Question ID : 264330140142

Option 1 ID : 264330548948

Option 2 ID : 264330548947

Option 3 ID : 264330548949

Option 4 ID : 264330548950

Status : Answered

Chosen Option : 1

Q.17 दिए गए दो चिन्हों को आपस में बदलने पर निम्नलिखित में से कौनसा समीकरण सही होगा?

+ और ÷

I. $4 \div 2 + 1 - 8 \times 3 = -10$

II. $18 \div 2 - 8 + 4 \times 3 = 14$

Ans

1. न तो I और न ही II
2. केवल II
3. I और II दोनों
4. केवल I

Question Type : MCQ

Question ID : 264330139584

Option 1 ID : 264330546754

Option 2 ID : 264330546752

Option 3 ID : 264330546753

Option 4 ID : 264330546751

Status : Answered

Chosen Option : 2

Q.18 दिए गए पैटर्न का ध्यानपूर्वक अध्ययन कीजिए और उस संख्या को चुनिए जो इसमें प्रश्न चिन्ह (?) के स्थान पर आ सकती है।
पहली पंक्ति- 12, 19, 26
दूसरी पंक्ति- 28, 35, 42
तीसरी पंक्ति- 39, 46, ?

- Ans**
- 1. 49
 - 2. 53
 - 3. 75
 - 4. 63

Question Type : **MCQ**
Question ID : **264330140026**
Option 1 ID : **264330548486**
Option 2 ID : **264330548483**
Option 3 ID : **264330548485**
Option 4 ID : **264330548484**
Status : **Answered**
Chosen Option : 2

Q.19 उस विकल्प को चुनिए जो तीसरे शब्द से ठीक उसी तरह संबंधित है जिस तरह दूसरा शब्द पहले शब्द से संबंधित है।
परलोक : स्वर्ग :: श्रद्धा : ?

- Ans**
- 1. विश्वासघात
 - 2. खजाना
 - 3. नास्तिकता
 - 4. आस्था

Question Type : **MCQ**
Question ID : **264330138790**
Option 1 ID : **264330543768**
Option 2 ID : **264330543770**
Option 3 ID : **264330543767**
Option 4 ID : **264330543769**
Status : **Answered**
Chosen Option : 4

Q.20 निम्नलिखित प्रश्न में कुछ कथन दिए गए हैं और उन कथनों के आधार पर कुछ निष्कर्ष दिए गए हैं। आपको मानना है कि दिए गए कथन सत्य हैं चाहे वे सामान्यतः ज्ञात तथ्यों से अलग प्रतीत होते हों। सभी निष्कर्षों को पढ़िए और फिर निश्चय कीजिए कि दिए गए निष्कर्षों में से कौन-सा निष्कर्ष तार्किक रूप से दिए गए कथनों के अनुसार है।

कथन:

I. सभी A, Y हैं।

II. कोई Z, A नहीं है।

निष्कर्ष:

I. सभी Y, A हैं।

II. कुछ Y, A हैं।

III. कुछ A, Z हैं।

Ans

- ✓ 1. केवल निष्कर्ष II कथनों के अनुसार है
- ✗ 2. कोई भी निष्कर्ष कथनों के अनुसार नहीं है
- ✗ 3. दोनों निष्कर्ष I और III कथनों के अनुसार हैं
- ✗ 4. सभी निष्कर्ष कथनों के अनुसार हैं

Question Type : MCQ

Question ID : 264330140986

Option 1 ID : 264330552291

Option 2 ID : 264330552294

Option 3 ID : 264330552292

Option 4 ID : 264330552293

Status : Answered

Chosen Option : 1

Section : General Awareness

Q.1 फलों को कृत्रिम रूप से पकाने के लिए निम्नलिखित में से किस गैस का उपयोग किया जाता है?

Ans

- ✗ 1. फ्रीऑन (Freon)
- ✓ 2. ऐसीटिलीन (Acetylene)
- ✗ 3. आर्गन (Argon)
- ✗ 4. हीलियम

Question Type : MCQ

Question ID : 264330141051

Option 1 ID : 264330552552

Option 2 ID : 264330552553

Option 3 ID : 264330552554

Option 4 ID : 264330552551

Status : Answered

Chosen Option : 2

Q.2 प्रधानमंत्री आवास योजना-शहरी (Pradhan Mantri Awas Yojana-Urban - PMAY-U) पुरस्कार 2021 में किस राज्य को पहला स्थान मिला है?

- Ans
- 1. तमिलनाडु
 - 2. उत्तरप्रदेश
 - 3. हरियाणा
 - 4. केरल

Question Type : MCQ
Question ID : 264330139657
Option 1 ID : 264330547044
Option 2 ID : 264330547045
Option 3 ID : 264330547046
Option 4 ID : 264330547043
Status : Answered
Chosen Option : 1

Q.3 कितने भारतीय राज्य "1 नवंबर" को अपने स्थापना दिवस के रूप में मनाते हैं?

- Ans
- 1. छः
 - 2. सात
 - 3. आठ
 - 4. पाँच

Question Type : MCQ
Question ID : 264330140890
Option 1 ID : 264330551908
Option 2 ID : 264330551909
Option 3 ID : 264330551910
Option 4 ID : 264330551907
Status : Answered
Chosen Option : 1

Q.4 _____ वह ब्याज दर है जिस पर भारतीय रिजर्व बैंक (RBI) देश के व्यावसायिक बैंकों को ऋण देता है।

- Ans
- 1. रेपो दर
 - 2. रिवर्स रेपो दर
 - 3. सीमांत दर
 - 4. आधार दर

Question Type : MCQ
Question ID : 264330140955
Option 1 ID : 264330552168
Option 2 ID : 264330552169
Option 3 ID : 264330552167
Option 4 ID : 264330552170
Status : Answered
Chosen Option : 1

Q.5 भगत सिंह को 23 मार्च, 1931 को _____ के साथ फांसी दी गई थी।

- Ans
- 1. बी.के. दत्त और राजगुरु
 - 2. सुखदेव और राजगुरु
 - 3. सुखदेव और चंद्रशेखर आजाद
 - 4. सुखदेव और बी.के. दत्त

Question Type : MCQ
Question ID : 264330138970
Option 1 ID : 264330544488
Option 2 ID : 264330544489
Option 3 ID : 264330544490
Option 4 ID : 264330544487
Status : Answered
Chosen Option : 2

Q.6 वर्ष 1900 में, भारत ने ओलंपिक खेलों में भाग लिया था जो _____ में आयोजित किए गए थे।

- Ans
- 1. पेरिस
 - 2. बर्लिन
 - 3. टोक्यो
 - 4. एथेंस

Question Type : MCQ
Question ID : 264330139869
Option 1 ID : 264330547855
Option 2 ID : 264330547857
Option 3 ID : 264330547856
Option 4 ID : 264330547858
Status : Answered
Chosen Option : 2

Q.7 निम्नलिखित शास्त्रीय नर्तकों में से कौन उड़ीसा के पहले ऐसे नर्तक थे जिसे पद्म विभूषण से सम्मानित किया गया था?

- Ans
- 1. पंकज चरण दास
 - 2. देब प्रसाद दास
 - 3. केलुचरण महापात्र
 - 4. रघुनाथ दत्ता

Question Type : MCQ
Question ID : 264330139730
Option 1 ID : 264330547338
Option 2 ID : 264330547337
Option 3 ID : 264330547335
Option 4 ID : 264330547336
Status : Answered
Chosen Option : 3

Q.8 वाइटमैन कप (Wightman Cup) निम्नलिखित में से किस खेल से संबंधित है?

- Ans
- 1. हॉकी
 - 2. टेनिस
 - 3. गोल्फ़
 - 4. क्रिकेट

Question Type : MCQ

Question ID : 264330140365

Option 1 ID : 264330549839

Option 2 ID : 264330549840

Option 3 ID : 264330549842

Option 4 ID : 264330549841

Status : Answered

Chosen Option : 4

Q.9 रक्त पट्टिकाणु (प्लेटलेट्स) को _____ के नाम से भी जाना जाता है।

- Ans
- 1. ल्युकोसाइट (leucocytes)
 - 2. एरिथ्रोसाइट्स (erythrocytes)
 - 3. थ्रोम्बोसाइट (thrombocytes)
 - 4. थ्रोम्बिन (thrombin)

Question Type : MCQ

Question ID : 264330140682

Option 1 ID : 264330551075

Option 2 ID : 264330551078

Option 3 ID : 264330551076

Option 4 ID : 264330551077

Status : Answered

Chosen Option : 3

Q.10 निम्नलिखित में से कौन-सी पर्वत श्रृंखला भारत में सबसे पुरानी है?

- Ans
- 1. सतपुड़ा और विंध्य पर्वतमाला
 - 2. पश्चिमी घाट
 - 3. पूर्वांचल पर्वतमाला
 - 4. अरावली पर्वतमाला

Question Type : MCQ

Question ID : 264330140377

Option 1 ID : 264330549887

Option 2 ID : 264330549889

Option 3 ID : 264330549890

Option 4 ID : 264330549888

Status : Answered

Chosen Option : 4

Q.11 किस लोदी शासक (1489 ई.से 1517 ई.से) का वास्तविक नाम निज़ाम खां था?

- Ans
- 1. सिकंदर लोदी (Sikandar Lodi)
 - 2. बहलोल लोदी (Bahlul Lodi)
 - 3. कुतुबुद्दीन मुबारक शाह (Qutbuddin Mubarak Shah)
 - 4. इब्राहिम लोदी (Ibrahim Lodi)

Question Type : MCQ
Question ID : 264330140920
Option 1 ID : 264330552030
Option 2 ID : 264330552029
Option 3 ID : 264330552028
Option 4 ID : 264330552027
Status : Answered
Chosen Option : 2

Q.12 डॉ. वी.आर. अम्बेडकर का संबंध निम्नलिखित में से किस समुदाय से था?

- Ans
- 1. संथाल (Santal)
 - 2. बरार (Berar)
 - 3. महार (Mahar)
 - 4. सांगोई (Sangoi)

Question Type : MCQ
Question ID : 264330139771
Option 1 ID : 264330547501
Option 2 ID : 264330547500
Option 3 ID : 264330547499
Option 4 ID : 264330547502
Status : Answered
Chosen Option : 3

Q.13 The music of Bharatanatyam belongs to _____ of southern India.

- Ans
- 1. Hindustani system
 - 2. Fusion system
 - 3. Carnatic system
 - 4. Folk system

Question Type : MCQ
Question ID : 264330139648
Option 1 ID : 264330547008
Option 2 ID : 264330547009
Option 3 ID : 264330547007
Option 4 ID : 264330547010
Status : Answered
Chosen Option : 3

Q.14 निम्नलिखित में से कौन-सा कारक जनसंख्या के वितरण को प्रभावित कर सकता है?

- I. भौगोलिक कारक
- II. सामाजिक कारक
- III. सांस्कृतिक कारक
- IV. आर्थिक कारक

- Ans
- 1. केवल I और II
 - 2. I, II, III और IV
 - 3. केवल I, II, III
 - 4. केवल II और III

Question Type : MCQ

Question ID : 264330140901

Option 1 ID : 264330551951

Option 2 ID : 264330551954

Option 3 ID : 264330551952

Option 4 ID : 264330551953

Status : Answered

Chosen Option : 2

Q.15 असम में वार्षिक फसलों की कटाई शुरू होने पर कौन-सा त्योहार मनाया जाता है?

- Ans
- 1. मकरविलक्कू
 - 2. पोंगल
 - 3. माघ बिहू
 - 4. लोहड़ी

Question Type : MCQ

Question ID : 264330140754

Option 1 ID : 264330551365

Option 2 ID : 264330551364

Option 3 ID : 264330551366

Option 4 ID : 264330551363

Status : Answered

Chosen Option : 3

Q.16 श्रीलंका भारत से _____ द्वारा अलग होता है।

- Ans
- 1. बेरिंग जलडमरूमध्य (Bering strait)
 - 2. मलक्का जलडमरूमध्य (Malacca strait)
 - 3. पाक जलडमरूमध्य (Palk strait)
 - 4. जिब्राल्टर जलडमरूमध्य (Strait of Gibraltar)

Question Type : MCQ
Question ID : 264330139742
Option 1 ID : 264330547383
Option 2 ID : 264330547384
Option 3 ID : 264330547386
Option 4 ID : 264330547385
Status : Answered
Chosen Option : 3

Q.17 हिमालय की सबसे बाहरी श्रृंखला को _____ कहा जाता है।

- Ans
- 1. हिमवत
 - 2. शिवालिक
 - 3. हिमाद्री
 - 4. कोंकण

Question Type : MCQ
Question ID : 264330140914
Option 1 ID : 264330552003
Option 2 ID : 264330552005
Option 3 ID : 264330552004
Option 4 ID : 264330552006
Status : Answered
Chosen Option : 2

Q.18 उच्च न्यायालयों की कुछ रिट (writs) जारी करने की शक्ति भारतीय संविधान के किस अनुच्छेद के तहत शामिल की गई है?

- Ans
- 1. अनुच्छेद 224
 - 2. अनुच्छेद 220
 - 3. अनुच्छेद 222
 - 4. अनुच्छेद 226

Question Type : MCQ
Question ID : 264330138982
Option 1 ID : 264330544537
Option 2 ID : 264330544535
Option 3 ID : 264330544536
Option 4 ID : 264330544538
Status : Answered
Chosen Option : 4

Q.19 वर्ष 2011 की जनगणना के अनुसार भारत में सर्वाधिक जनसंख्या घनत्व _____ का है।

- Ans
- 1. मध्यप्रदेश
 - 2. बिहार
 - 3. दिल्ली राष्ट्रीय राजधानी क्षेत्र
 - 4. केंद्र शासित प्रदेश चंडीगढ़

Question Type : MCQ
Question ID : 264330139692
Option 1 ID : 264330547183
Option 2 ID : 264330547184
Option 3 ID : 264330547186
Option 4 ID : 264330547185
Status : Answered
Chosen Option : 3

Q.20 भीमबेटका के शैलाश्रय किस पर्वत की तलहटी में स्थित हैं?

- Ans
- 1. जास्कर
 - 2. सतपुड़ा
 - 3. विंध्य
 - 4. पीर पंजाल

Question Type : MCQ
Question ID : 264330139675
Option 1 ID : 264330547118
Option 2 ID : 264330547116
Option 3 ID : 264330547115
Option 4 ID : 264330547117
Status : Answered
Chosen Option : 2

Q.21 निम्नलिखित में से कौन एक प्रसिद्ध भारतीय शहनाई वादक हैं जिन्हें वर्ष 2001 में भारत रत्न से सम्मानित किया गया था?

- Ans
- 1. उस्ताद जाकिर हुसैन
 - 2. पंडित रविशंकर
 - 3. पंडित शिवकुमार शर्मा
 - 4. उस्ताद बिस्मिल्लाह खां

Question Type : MCQ
Question ID : 264330140719
Option 1 ID : 264330551226
Option 2 ID : 264330551224
Option 3 ID : 264330551225
Option 4 ID : 264330551223
Status : Answered
Chosen Option : 3

Q.22 निम्नलिखित में से कौन 'रिवर ऑफ स्मोक (River of Smoke)' उपन्यास के लेखक हैं?

- Ans
- 1. बी.बी. लाल
 - 2. मनोहर मालगांवकर
 - 3. अमिताव घोष
 - 4. जीत थायिल

Question Type : MCQ
Question ID : 264330138951
Option 1 ID : 264330544412
Option 2 ID : 264330544411
Option 3 ID : 264330544414
Option 4 ID : 264330544413
Status : Answered
Chosen Option : 1

Q.23 भारतीय संविधान के निम्नलिखित में से किस अनुच्छेद में मौलिक कर्तव्य, "भारत की संप्रभुता, एकता और अखंडता" का उल्लेख है?

- Ans
- 1. अनुच्छेद 51A (b)
 - 2. अनुच्छेद 51A (d)
 - 3. अनुच्छेद 51A (e)
 - 4. अनुच्छेद 51A (c)

Question Type : MCQ
Question ID : 264330139735
Option 1 ID : 264330547355
Option 2 ID : 264330547357
Option 3 ID : 264330547358
Option 4 ID : 264330547356
Status : Answered
Chosen Option : 1

Q.24 नवंबर 2022 की स्थिति के अनुसार, भारत के पड़ोसी देश भूटान की राजधानी क्या है?

- Ans
- 1. पारो (Paro)
 - 2. थिम्पू
 - 3. बीजिंग
 - 4. ढाका

Question Type : MCQ
Question ID : 264330140739
Option 1 ID : 264330551306
Option 2 ID : 264330551304
Option 3 ID : 264330551303
Option 4 ID : 264330551305
Status : Answered
Chosen Option : 2

Q.25 कौन-सा रोग आहार में प्रोटीन की कमी से होता है?

- Ans
- 1. पीलिया (Jaundice)
 - 2. स्कर्वी (Scurvy)
 - 3. सूखा रोग (Rickets)
 - 4. क्वाशिओरकर (Kwashiorkor)

Question Type : MCQ

Question ID : 264330140374

Option 1 ID : 264330549877

Option 2 ID : 264330549876

Option 3 ID : 264330549878

Option 4 ID : 264330549875

Status : Answered

Chosen Option : 4

Section : English Language and Comprehension

Q.1 Select the most appropriate option to fill in the blank.

My friends, being incredibly nerdy linguists, _____ to make fun of the syntax.

- Ans
- 1. stalked
 - 2. braided
 - 3. traded
 - 4. decided

Question Type : MCQ

Question ID : 264330136559

Option 1 ID : 264330534972

Option 2 ID : 264330534971

Option 3 ID : 264330534973

Option 4 ID : 264330534974

Status : Answered

Chosen Option : 4

Q.2 Improve the underlined part of the sentence. Choose 'No improvement' as an answer if the sentence is grammatically correct.

He teaches me algebraic and geometry twice a week.

- Ans
- 1. taught I algebra
 - 2. No improvement
 - 3. taught me algebra
 - 4. teach me algebraic

Question Type : MCQ

Question ID : 264330135514

Option 1 ID : 264330530965

Option 2 ID : 264330530966

Option 3 ID : 264330530963

Option 4 ID : 264330530964

Status : Answered

Chosen Option : 3

Q.3 Choose the incorrectly spelt word.

- Ans** 1. Graetar
 2. Frame
 3. Decrease
 4. Rocking

Question Type : **MCQ**
Question ID : **264330135659**
Option 1 ID : **264330531534**
Option 2 ID : **264330531532**
Option 3 ID : **264330531531**
Option 4 ID : **264330531533**
Status : **Answered**
Chosen Option : **1**

Q.4 Four sentences are given, out of which three have spelling errors. Choose the sentence with all correctly spelt words.

- Ans** 1.
Moving between floors, their journey seems both improbable and inevitable.
2.
The Secretary requested to be informed only as necessary to perform his job.
3.
The extended phenotype is noticeable when we look at parasites.
4. They predicted a similarly miniscule drop for September.

Question Type : **MCQ**
Question ID : **264330136184**
Option 1 ID : **264330533533**
Option 2 ID : **264330533532**
Option 3 ID : **264330533531**
Option 4 ID : **264330533534**
Status : **Answered**
Chosen Option : **3**

Q.5 Find the part of the given sentence that has an error in it. If there is no error, choose 'No error'.

Land management choices also affect the amount of carbon stored on trees.

- Ans** 1. also affect the amount of
 2. No error
 3. Land management choices
 4. carbon stored on trees.

Question Type : **MCQ**
Question ID : **264330135152**
Option 1 ID : **264330529544**
Option 2 ID : **264330529546**
Option 3 ID : **264330529543**
Option 4 ID : **264330529545**
Status : **Answered**
Chosen Option : **4**

Q.6 Select the most appropriate option to fill in the blank.

Indonesian police fired warning shots, tear gas and water cannon to try and _____ the crowd.

- Ans**
- 1. Delimit
 - 2. Deleterious
 - 3. Disperse
 - 4. Discrete

Question Type : **MCQ**
Question ID : **264330136541**
Option 1 ID : **264330534905**
Option 2 ID : **264330534903**
Option 3 ID : **264330534904**
Option 4 ID : **264330534906**
Status : **Answered**
Chosen Option : **3**

Q.7 Select the word segment that substitutes (replaces) the bracketed word segment correctly and completes the sentence meaningfully. Select the option 'no correction required' if the sentence is correct as given.
(Then got of on) a station in the very heart of London.

- Ans**
- 1. They got off at
 - 2. They got of by
 - 3. No correction required
 - 4. They got off on

Question Type : **MCQ**
Question ID : **264330136113**
Option 1 ID : **264330533259**
Option 2 ID : **264330533260**
Option 3 ID : **264330533262**
Option 4 ID : **264330533261**
Status : **Answered**
Chosen Option : **1**

Q.8 Fill in the blank with the most appropriate option.

They bought _____ tickets instead from a sleepy-looking guard.

- Ans**
- 1. there
 - 2. their
 - 3. dare
 - 4. dire

Question Type : **MCQ**
Question ID : **264330136186**
Option 1 ID : **264330533540**
Option 2 ID : **264330533539**
Option 3 ID : **264330533541**
Option 4 ID : **264330533542**
Status : **Answered**
Chosen Option : **2**

Q.9 Select the most appropriate synonym to substitute the bracketed word in the given sentence.

Spreading from the ports, Formosan termites began a (subterranean) colonization of the country.

- Ans**
- 1. Terrestrial
 - 2. Underground
 - 3. Overt
 - 4. Subcutaneous

Question Type : **MCQ**
Question ID : **264330136361**
Option 1 ID : **264330534213**
Option 2 ID : **264330534212**
Option 3 ID : **264330534211**
Option 4 ID : **264330534214**
Status : **Answered**
Chosen Option : **1**

Q.10 Select the most appropriate meaning of the given idiom.

Add fuel to the fire

- Ans**
- 1. A mistake made in something you are trying to achieve
 - 2. To make an argument or bad situation worse
 - 3. Having to start all over again
 - 4. When an attempt fails and it's time to start all over

Question Type : **MCQ**
Question ID : **264330136503**
Option 1 ID : **264330534758**
Option 2 ID : **264330534755**
Option 3 ID : **264330534756**
Option 4 ID : **264330534757**
Status : **Answered**
Chosen Option : **2**

Q.11 Select the most appropriate antonym of the given word.

Glamour

- Ans**
- 1. Dullness
 - 2. Magnanimous
 - 3. Charm
 - 4. Appeal

Question Type : **MCQ**
Question ID : **264330136579**
Option 1 ID : **264330535047**
Option 2 ID : **264330535050**
Option 3 ID : **264330535049**
Option 4 ID : **264330535048**
Status : **Answered**
Chosen Option : **1**

Q.12 Select the appropriate synonym for the underlined word.

I mean that is a remarkable finding.

- Ans
- 1. standard
 - 2. subtle
 - 3. noticeable
 - 4. Dim

Question Type : MCQ
Question ID : 264330135551
Option 1 ID : 264330531103
Option 2 ID : 264330531104
Option 3 ID : 264330531105
Option 4 ID : 264330531106
Status : Answered
Chosen Option : 3

Q.13 In the following question, out of the given four alternatives, select the alternative which best expresses the meaning of the Idiom/Phrase.

To pick holes in someone's coat

- Ans
- 1. To find fault with someone
 - 2. To deceive someone for personal gain
 - 3. To aspire for something difficult
 - 4. To discharge one's duty well

Question Type : MCQ
Question ID : 264330135251
Option 1 ID : 264330529925
Option 2 ID : 264330529926
Option 3 ID : 264330529924
Option 4 ID : 264330529923
Status : Answered
Chosen Option : 1

Q.14 Identify the segment that contains a grammatical error. If there is no error, select 'No error'.
Do you think I'd rather / be stuck in a room with that old / toad or be played Quidditch?

- Ans
- 1. Do you think I'd rather
 - 2. No error
 - 3. toad or be played Quidditch?
 - 4. be stuck in a room with that old

Question Type : MCQ
Question ID : 264330136137
Option 1 ID : 264330533351
Option 2 ID : 264330533354
Option 3 ID : 264330533353
Option 4 ID : 264330533352
Status : Answered
Chosen Option : 4

Q.15 Select the word segment that substitutes (replaces) the bracketed word segment correctly and completes the sentence meaningfully. Select the option 'no correction required' if the sentence is correct as given.
We saw him (the more) during Hogsmende weekend.

- Ans**
- 1. the many
 - 2. the most
 - 3. the bigger
 - 4. No correction required

Question Type : **MCQ**
Question ID : **264330136165**
Option 1 ID : **264330533459**
Option 2 ID : **264330533460**
Option 3 ID : **264330533461**
Option 4 ID : **264330533462**
Status : **Answered**
Chosen Option : **2**

Q.16 Identify the segment that contains a grammatical error. If there is no error, select 'No error'.

For example, the parent mountain/ of Mont Blanc, the/ high peak in the Alps, is the Mount Everest.

- Ans**
- 1. high peak in the Alps, is the Mount Everest.
 - 2. For example, the parent mountain
 - 3. of Mont Blanc, the
 - 4. No error

Question Type : **MCQ**
Question ID : **264330136484**
Option 1 ID : **264330534685**
Option 2 ID : **264330534683**
Option 3 ID : **264330534684**
Option 4 ID : **264330534686**
Status : **Answered**
Chosen Option : **1**

Q.17 Choose the word that can substitute the given group of words.

Fit to drink

- Ans**
- 1. Ostensible
 - 2. Potable
 - 3. Deplorable
 - 4. Liable

Question Type : **MCQ**
Question ID : **264330135166**
Option 1 ID : **264330529598**
Option 2 ID : **264330529597**
Option 3 ID : **264330529595**
Option 4 ID : **264330529596**
Status : **Answered**
Chosen Option : **2**

Q.18 Select the most appropriate word for the given group of words.

A person who likes or admires women

- Ans**
- 1. Polyglot
 - 2. Conversationalist
 - 3. Misogynist
 - 4. Philogynist

Question Type : **MCQ**
Question ID : **264330135834**
Option 1 ID : **264330532204**
Option 2 ID : **264330532203**
Option 3 ID : **264330532206**
Option 4 ID : **264330532205**
Status : **Answered**
Chosen Option : **3**

Q.19 Select the most appropriate antonym to substitute the bracketed word in the given sentence.

For high-moisture areas, like kitchens and baths or where (frequent) cleaning is required, use only oil-based.

- Ans**
- 1. confirmed
 - 2. constant
 - 3. seldom
 - 4. dawdle

Question Type : **MCQ**
Question ID : **264330135682**
Option 1 ID : **264330531619**
Option 2 ID : **264330531620**
Option 3 ID : **264330531621**
Option 4 ID : **264330531622**
Status : **Answered**
Chosen Option : **2**

Q.20 Select the most appropriate option to fill in the blank.

Nickel or brass can cause an allergic reaction when in _____ with human skin .

- Ans**
- 1. parallel
 - 2. contact
 - 3. accordance
 - 4. surface

Question Type : **MCQ**
Question ID : **264330136750**
Option 1 ID : **264330535710**
Option 2 ID : **264330535708**
Option 3 ID : **264330535707**
Option 4 ID : **264330535709**
Status : **Answered**
Chosen Option : **2**

Comprehension:

In the following passage some words have been deleted. Fill in the blanks with the help of the alternatives given. Select the most appropriate option for each number.

A loud, echoing crack broke the sleepy (1) _____ like a gunshot; a cat streaked out (2) _____ a parked car and flew out of sight; a shriek, a bellowed oath and the (3) _____ of breaking (4) _____ came from the Paula's living room, and as (5) _____ this was the signal Mansi had been waiting for.

SubQuestion No : 21

Q.21 Select the most appropriate option to fill in the blank No. 1.

- Ans**
- 1. silence
 - 2. blackout
 - 3. blast
 - 4. lull

Question Type : **MCQ**

Question ID : **264330136118**

Option 1 ID : **264330533276**

Option 2 ID : **264330533275**

Option 3 ID : **264330533278**

Option 4 ID : **264330533277**

Status : **Answered**

Chosen Option : **1**

Comprehension:

In the following passage some words have been deleted. Fill in the blanks with the help of the alternatives given. Select the most appropriate option for each number.

A loud, echoing crack broke the sleepy (1) _____ like a gunshot; a cat streaked out (2) _____ a parked car and flew out of sight; a shriek, a bellowed oath and the (3) _____ of breaking (4) _____ came from the Paula's living room, and as (5) _____ this was the signal Mansi had been waiting for.

SubQuestion No : 22

Q.22 Select the most appropriate option to fill in the blank No. 2.

- Ans**
- 1. side under
 - 2. by under
 - 3. from under
 - 4. from over

Question Type : **MCQ**

Question ID : **264330136119**

Option 1 ID : **264330533282**

Option 2 ID : **264330533280**

Option 3 ID : **264330533281**

Option 4 ID : **264330533279**

Status : **Answered**

Chosen Option : **3**

Comprehension:

In the following passage some words have been deleted. Fill in the blanks with the help of the alternatives given. Select the most appropriate option for each number.

A loud, echoing crack broke the sleepy (1) _____ like a gunshot; a cat streaked out (2) _____ a parked car and flew out of sight; a shriek, a bellowed oath and the (3) _____ of breaking (4) _____ came from the Paula's living room, and as (5) _____ this was the signal Mansi had been waiting for.

SubQuestion No : 23

Q.23 Select the most appropriate option to fill in the blank No. 3.

- Ans**
- 1. vibrant
 - 2. sound
 - 3. intact
 - 4. flawless

Question Type : **MCQ**

Question ID : **264330136120**

Option 1 ID : **264330533285**

Option 2 ID : **264330533286**

Option 3 ID : **264330533284**

Option 4 ID : **264330533283**

Status : **Answered**

Chosen Option : **2**

Comprehension:

In the following passage some words have been deleted. Fill in the blanks with the help of the alternatives given. Select the most appropriate option for each number.

A loud, echoing crack broke the sleepy (1) _____ like a gunshot; a cat streaked out (2) _____ a parked car and flew out of sight; a shriek, a bellowed oath and the (3) _____ of breaking (4) _____ came from the Paula's living room, and as (5) _____ this was the signal Mansi had been waiting for.

SubQuestion No : 24

Q.24 Select the most appropriate option to fill in the blank No. 4.

- Ans**
- 1. heart
 - 2. atrocity
 - 3. tyre
 - 4. china

Question Type : **MCQ**

Question ID : **264330136121**

Option 1 ID : **264330533289**

Option 2 ID : **264330533290**

Option 3 ID : **264330533287**

Option 4 ID : **264330533288**

Status : **Answered**

Chosen Option : **1**

Comprehension:

In the following passage some words have been deleted. Fill in the blanks with the help of the alternatives given. Select the most appropriate option for each number.

A loud, echoing crack broke the sleepy (1) _____ like a gunshot; a cat streaked out (2) _____ a parked car and flew out of sight; a shriek, a bellowed oath and the (3) _____ of breaking (4) _____ came from the Paula's living room, and as (5) _____ this was the signal Mansi had been waiting for.

SubQuestion No : 25

Q.25 Select the most appropriate option to fill in the blank No. 5.

- Ans**
- 1. through
 - 2. like
 - 3. though
 - 4. throughout

Question Type : **MCQ**

Question ID : **264330136122**

Option 1 ID : **264330533293**

Option 2 ID : **264330533292**

Option 3 ID : **264330533291**

Option 4 ID : **264330533294**

Status : **Answered**

Chosen Option : **3**

Multi Tasking Non Technical Staff and Havaladar CBIC and CBN Examination 2022

Roll Number	KD Job Updates
Candidate Name	KD Job Updates
Venue Name	iON Digital Zone iDZ Hamirpur
Exam Date	16/06/2023
Exam Time	12:00 PM - 2:00 PM
Subject	MTS Non Tech Havaladar CBIC and CBN Examination 2022

Section : Numerical and Mathematical Ability

Q.1 1 kg चावल के मूल्य में 50 प्रतिशत की वृद्धि होती है और चावल का पुराना मूल्य Rs.60 है। चावल का नया (प्रति किलोग्राम) मूल्य क्या है?

- Ans 1. Rs. 90
 2. Rs. 80
 3. Rs. 60
 4. Rs. 72

Question Type : MCQ

Question ID : 264330140244

Option 1 ID : 264330549358

Option 2 ID : 264330549356

Option 3 ID : 264330549355

Option 4 ID : 264330549357

Status : Answered

Chosen Option : 1

Q.2 A अकेले एक डिवाइडर का निर्माण 60 दिनों में कर सकता है, जबकि B अकेले इसका निर्माण 80 दिनों में कर सकता है। यदि वे इसे साथ मिलकर बनाते हैं और उन्हें Rs. 7000 मिलते हैं, तो इसमें B का हिस्सा कितना है?

- Ans 1. Rs. 3000
 2. Rs. 2880
 3. Rs. 3500
 4. Rs. 3200

Question Type : MCQ

Question ID : 264330140790

Option 1 ID : 264330551508

Option 2 ID : 264330551507

Option 3 ID : 264330551509

Option 4 ID : 264330551510

Status : Answered

Chosen Option : 1

Q.3 500 लीटर ऐल्कोहॉल (alcohol) और पानी के मिश्रण में 20 प्रतिशत पानी है। इसमें और कितना पानी मिलाया जाए कि नए मिश्रण में पानी 50 प्रतिशत हो जाए?

- Ans
- ✓ 1. 300 लीटर
 - ✗ 2. 350 लीटर
 - ✗ 3. 450 लीटर
 - ✗ 4. 400 लीटर

Question Type : MCQ
Question ID : 264330140222
Option 1 ID : 264330549270
Option 2 ID : 264330549268
Option 3 ID : 264330549267
Option 4 ID : 264330549269
Status : Answered
Chosen Option : 1

Q.4 एक निश्चित राशि पर 20 प्रतिशत वार्षिक दर से 2 वर्ष का चक्रवृद्धि ब्याज (वार्षिक रूप से संयोजित) Rs. 2420 है। समान राशि और समान ब्याज दर पर 3 वर्ष का साधारण ब्याज कितना होगा?

- Ans
- ✓ 1. Rs. 3300
 - ✗ 2. Rs. 3000
 - ✗ 3. Rs. 4200
 - ✗ 4. Rs. 3800

Question Type : MCQ
Question ID : 264330140594
Option 1 ID : 264330550727
Option 2 ID : 264330550728
Option 3 ID : 264330550730
Option 4 ID : 264330550729
Status : Answered
Chosen Option : 1

Q.5 $\frac{132}{11} \times \frac{13}{12} \div \frac{169}{14} - \frac{1}{13}$ का मान क्या है?

- Ans
- ✗ 1. 5
 - ✗ 2. 6
 - ✓ 3. 1
 - ✗ 4. 3

Question Type : MCQ
Question ID : 264330140579
Option 1 ID : 264330550669
Option 2 ID : 264330550670
Option 3 ID : 264330550667
Option 4 ID : 264330550668
Status : Answered
Chosen Option : 3

Q.6 दो पाइप अकेले एक टंकी को क्रमशः 20 घंटे और 24 घंटे में भर सकते हैं और एक निकासी पाइप अकेले प्रति घंटे 20 गैलन (gallons) पानी खाली कर सकता है। तीनों पाइप एक साथ काम करते हुए उसी खाली टंकी को 40 घंटे में भर सकते हैं। टंकी की क्षमता (धारिता) कितनी है?

- Ans
- 1. 450 गैलन
 - 2. 600 गैलन
 - 3. 300 गैलन
 - 4. 480 गैलन

Question Type : MCQ
Question ID : 264330140240
Option 1 ID : 264330549340
Option 2 ID : 264330549341
Option 3 ID : 264330549339
Option 4 ID : 264330549342
Status : Not Answered
Chosen Option : --

Q.7 यदि $P : Q : R = 4 : 7 : 9$ और $R : S = 2 : 5$ है, तो $P : S$ का मान क्या है?

- Ans
- 1. 8 : 45
 - 2. 1 : 5
 - 3. 9 : 57
 - 4. 10 : 43

Question Type : MCQ
Question ID : 264330140591
Option 1 ID : 264330550718
Option 2 ID : 264330550717
Option 3 ID : 264330550715
Option 4 ID : 264330550716
Status : Answered
Chosen Option : 1

Q.8 दो गोलों की बिज्याओं का अनुपात 1 : 5 है। दोनों गोलों के आयतनों का अनुपात क्या है?

- Ans
- 1. 1 : 25
 - 2. 1 : 64
 - 3. 1 : 125
 - 4. 8 : 27

Question Type : MCQ
Question ID : 264330140546
Option 1 ID : 264330550541
Option 2 ID : 264330550542
Option 3 ID : 264330550540
Option 4 ID : 264330550539
Status : Answered
Chosen Option : 3

Q.9 एक घनाभ की लंबाई और चौड़ाई का योग 16 cm है। यदि घनाभ की ऊँचाई उसकी लंबाई और चौड़ाई के योग का $\frac{1}{4}$ भाग है, तो घनाभ का पार्श्व पृष्ठीय क्षेत्रफल क्या है?

- Ans
- ✓ 1. 128 cm^2
 - ✗ 2. 156 cm^2
 - ✗ 3. 96 cm^2
 - ✗ 4. 196 cm^2

Question Type : MCQ
Question ID : 264330139924
Option 1 ID : 264330548076
Option 2 ID : 264330548077
Option 3 ID : 264330548078
Option 4 ID : 264330548075
Status : Not Answered
Chosen Option : --

Q.10 एक वस्तु का अंकित मूल्य उसके क्रय मूल्य का 160 प्रतिशत है। यदि 30 प्रतिशत का बट्टा दिया जाता है, तो लाभ प्रतिशत क्या होगा?

- Ans
- ✗ 1. 10 प्रतिशत
 - ✗ 2. 15 प्रतिशत
 - ✗ 3. 14 प्रतिशत
 - ✓ 4. 12 प्रतिशत

Question Type : MCQ
Question ID : 264330139620
Option 1 ID : 264330546895
Option 2 ID : 264330546896
Option 3 ID : 264330546898
Option 4 ID : 264330546897
Status : Answered
Chosen Option : 4

Q.11 विक्रय मूल्य और क्रय मूल्य का अनुपात 9 : 8 है। लाभ प्रतिशत कितना है?

- Ans
- ✗ 1. 15 प्रतिशत
 - ✗ 2. 10.5 प्रतिशत
 - ✓ 3. 12.5 प्रतिशत
 - ✗ 4. 20 प्रतिशत

Question Type : MCQ
Question ID : 264330139957
Option 1 ID : 264330548207
Option 2 ID : 264330548210
Option 3 ID : 264330548208
Option 4 ID : 264330548209
Status : Answered
Chosen Option : 3

Q.12 किसी धनराशि पर 8 प्रतिशत वार्षिक दर से आठ माह का साधारण ब्याज Rs.240 है। वह धनराशि है:

- Ans
- ✓ 1. Rs. 4500
 - ✗ 2. Rs. 7200
 - ✗ 3. Rs. 6000
 - ✗ 4. Rs. 7500

Question Type : MCQ

Question ID : 264330139618

Option 1 ID : 264330546890

Option 2 ID : 264330546889

Option 3 ID : 264330546888

Option 4 ID : 264330546887

Status : Answered

Chosen Option : 1

Q.13 सुनील ने 2 घंटे, 50 मील प्रति घंटे की चाल से गाड़ी चलाई और फिर 3 घंटे, 60 मील प्रति घंटे की चाल से गाड़ी चलाई। पूरी यात्रा में उसकी औसत चाल क्या थी?

- Ans
- ✗ 1. 50 मील प्रति घंटे
 - ✗ 2. 52 मील प्रति घंटे
 - ✗ 3. 55 मील प्रति घंटे
 - ✓ 4. 56 मील प्रति घंटे

Question Type : MCQ

Question ID : 264330140801

Option 1 ID : 264330551554

Option 2 ID : 264330551551

Option 3 ID : 264330551552

Option 4 ID : 264330551553

Status : Answered

Chosen Option : 4

Q.14 दो संख्याओं का योग 45 है। उनका महत्तम समापवर्तक (HCF) और लघुत्तम समापवर्त्य (LCM) क्रमशः 5 और 70 है। दो संख्याओं के व्युत्क्रम का योग ज्ञात कीजिए।

- Ans
- ✗ 1. 3/140
 - ✓ 2. 9/70
 - ✗ 3. 3/16
 - ✗ 4. 4/35

Question Type : MCQ

Question ID : 264330139623

Option 1 ID : 264330546907

Option 2 ID : 264330546908

Option 3 ID : 264330546910

Option 4 ID : 264330546909

Status : Answered

Chosen Option : 2

Q.15 P और Q समान बिंदु से और समान समय पर क्रमशः 20 km/hr और 16 km/hr की चाल से चलना शुरू करते हैं। यदि वे दोनों समान दिशा में चलते हैं, तो 4 घंटे बाद P और Q के बीच की दूरी कितनी होगी?

- Ans
- 1. 15 km
 - 2. 12 km
 - 3. 16 km
 - 4. 20 km

Question Type : MCQ

Question ID : 264330140834

Option 1 ID : 264330551684

Option 2 ID : 264330551683

Option 3 ID : 264330551685

Option 4 ID : 264330551686

Status : Answered

Chosen Option : 3

Q.16 $\sqrt{0.48 \times 0.48 + 0.25 \times 0.25 + 0.5 \times 0.48}$ का मान क्या है?

- Ans
- 1. 0.63
 - 2. 0.73
 - 3. 0.83
 - 4. 0.93

Question Type : MCQ

Question ID : 264330140256

Option 1 ID : 264330549405

Option 2 ID : 264330549403

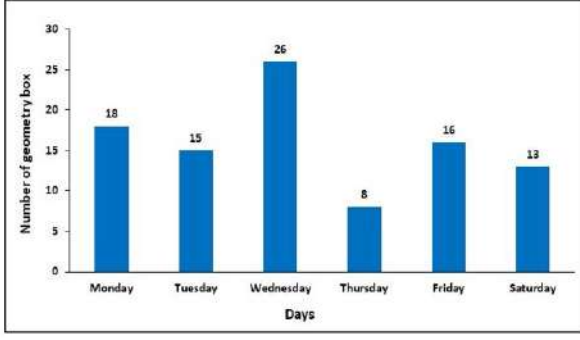
Option 3 ID : 264330549404

Option 4 ID : 264330549406

Status : Not Answered

Chosen Option : --

Q.17 निम्नलिखित दंड आलेख में 6 दिनों में एक स्टेशनरी की दुकान द्वारा की गई जियॉमेट्री बॉक्स की बिक्री को दर्शाया गया है। प्रति दिन औसत बिक्री कितनी है?



Number of geometry box - जियॉमेट्री बॉक्स की संख्या, Days - दिन, Monday- सोमवार, Tuesday - मंगलवार, Wednesday - बुधवार, Thursday - गुरुवार, Friday - शुक्रवार, Saturday - शनिवार,

- Ans 1. 16
 2. 20
 3. 15
 4. 18

Question Type : MCQ

Question ID : 264330140838

Option 1 ID : 264330551699

Option 2 ID : 264330551702

Option 3 ID : 264330551701

Option 4 ID : 264330551700

Status : Answered

Chosen Option : 1

Q.18 नीचे दी गई तालिका में 6 वर्षों में दो कंपनियों द्वारा किए गए टैक्सी के उत्पादन को दर्शाया गया है।

वर्ष	A	B
Y1	800	1300
Y2	500	1000
Y3	700	800
Y4	1200	400
Y5	900	300
Y6	600	500

निम्नलिखित में से कौन-सा कथन सही नहीं है?

I. वर्ष Y1 में A द्वारा किया गया टैक्सी का उत्पादन, वर्ष Y2 में B द्वारा किए गए टैक्सी के उत्पादन से 20 प्रतिशत अधिक है।

II. वर्ष Y3 और Y4 में A द्वारा किए गए टैक्सी के कुल उत्पादन और वर्ष Y5 और Y6 में B द्वारा किए गए टैक्सी के कुल उत्पादन का अनुपात 8 : 19 है।

- Ans 1. I और II दोनों
 2. केवल I
 3. न तो I और न ही II
 4. केवल II

Question Type : MCQ

Question ID : 264330140211

Option 1 ID : 264330549225

Option 2 ID : 264330549223

Option 3 ID : 264330549226

Option 4 ID : 264330549224

Status : Answered

Chosen Option : 1

Q.19 एक जैकेट को Rs.3860 में बेचने पर अर्जित लाभ उसी जैकेट को Rs.1900 में बेचने पर हुई हानि के बराबर है। 10 प्रतिशत लाभ अर्जित करने के लिए जैकेट का विक्रय मूल्य क्या होना चाहिए?

- Ans
- 1. Rs. 3250
 - 2. Rs. 3450
 - 3. Rs. 3360
 - 4. Rs. 3168

Question Type : **MCQ**

Question ID : **264330140618**

Option 1 ID : **264330550820**

Option 2 ID : **264330550819**

Option 3 ID : **264330550822**

Option 4 ID : **264330550821**

Status : **Not Answered**

Chosen Option : --

Q.20 एक बोटल में दूध और पानी का 8 लीटर मिश्रण 3:1 के अनुपात में है। दिए गए मिश्रण में 3 लीटर पानी मिलाया जाता है। मिश्रण में दूध और पानी का नया अनुपात ज्ञात कीजिए।

- Ans
- 1. 2:3
 - 2. 6:5
 - 3. 3:2
 - 4. 1:3

Question Type : **MCQ**

Question ID : **264330133759**

Option 1 ID : **264330524061**

Option 2 ID : **264330524059**

Option 3 ID : **264330524060**

Option 4 ID : **264330524062**

Status : **Answered**

Chosen Option : **2**

Section : Reasoning Ability and Problem Solving

Q.1 दो कथन दिए गए हैं और दो निष्कर्ष I और II दिए गए हैं। कथनों को सत्य मानते हुए, चाहे वे सामान्यतः ज्ञात तथ्यों से अलग प्रतीत होते हों, निश्चय कीजिए कि कौन-सा निष्कर्ष तार्किक रूप से कथनों के अनुसार है।

कथन:

कुछ कंबल, चादरें हैं।

कुछ चादरें, तकिएँ हैं।

निष्कर्ष:

I. कुछ कंबल, तकिएँ हैं।

II. सभी चादरें कभी भी तकिएँ नहीं हो सकते।

Ans

1. सिर्फ निष्कर्ष I कथनों के अनुसार है
2. सिर्फ निष्कर्ष II कथनों के अनुसार है
3. दोनों निष्कर्ष I और II कथनों के अनुसार हैं
4. निष्कर्ष I और II में से कोई भी कथनों के अनुसार नहीं है

Question Type : MCQ

Question ID : 264330140442

Option 1 ID : 264330550147

Option 2 ID : 264330550148

Option 3 ID : 264330550149

Option 4 ID : 264330550150

Status : Answered

Chosen Option : 4

Q.2 सात लड़कियाँ, मानसी, श्वेता, मोनिका, पायल, आरती, काजल और लक्ष्मी एक वृत्ताकार मेज के चारों ओर केंद्र की विपरीत दिशा की ओर मुख करके बैठी हैं (परंतु जरूरी नहीं कि वे इसी क्रम में बैठी हों)। काजल, लक्ष्मी के बाईं ओर से दूसरे स्थान पर है। पायल, मानसी और लक्ष्मी दोनों की निकटतम पड़ोसी हैं। मोनिका, लक्ष्मी की निकटतम पड़ोसी नहीं है। आरती, काजल के बाईं ओर से दूसरे स्थान पर है। पायल के बाईं ओर से दूसरे स्थान पर कौन बैठा है?

Ans

1. काजल
2. श्वेता
3. आरती
4. लक्ष्मी

Question Type : MCQ

Question ID : 264330140963

Option 1 ID : 264330552201

Option 2 ID : 264330552199

Option 3 ID : 264330552200

Option 4 ID : 264330552202

Status : Answered

Chosen Option : 3

Q.3 एक निश्चित कूट भाषा में, 'CAMERA' को 'B185131D' लिखा जाता है। उस कूट भाषा में 'EXTEND' को कैसे लिखा जाएगा?

- Ans
- 1. C1452024F
 - 2. E1452024D
 - 3. E1452024F
 - 4. C1452024D

Question Type : MCQ

Question ID : 264330140137

Option 1 ID : 264330548928

Option 2 ID : 264330548929

Option 3 ID : 264330548927

Option 4 ID : 264330548930

Status : Answered

Chosen Option : 3

Q.4 दी गई श्रृंखला में निम्नलिखित में से कौन-सी संख्या प्रश्न चिन्ह (?) के स्थान पर आएगी?
25, -75, 225, -675, 2025, ?

- Ans
- 1. -7250
 - 2. -5160
 - 3. -6075
 - 4. -8400

Question Type : MCQ

Question ID : 264330140085

Option 1 ID : 264330548719

Option 2 ID : 264330548721

Option 3 ID : 264330548722

Option 4 ID : 264330548720

Status : Answered

Chosen Option : 3

Q.5 यदि A का अर्थ 'जोड़', B का अर्थ 'गुणा', C का अर्थ 'घटाव' और D का अर्थ 'भाग' हो, तो निम्नलिखित समीकरण का मान क्या होगा?
 $7 B 3 C 18 A (4 D 2) = ?$

- Ans
- 1. 6
 - 2. 4
 - 3. 5
 - 4. 7

Question Type : MCQ

Question ID : 264330140149

Option 1 ID : 264330548976

Option 2 ID : 264330548978

Option 3 ID : 264330548977

Option 4 ID : 264330548975

Status : Answered

Chosen Option : 3

Q.6 दिए गए दो चिहनों और दो संख्याओं को आपस में बदलने पर, दिए गए समीकरण का मान क्या होगा?
+ और ÷, 4 और 6 ; $8 \div 6 \times 3 + 4 - 9$

- Ans
- 1. 6
 - 2. 1
 - 3. 2
 - 4. 0

Question Type : MCQ
Question ID : 264330139986
Option 1 ID : 264330548324
Option 2 ID : 264330548325
Option 3 ID : 264330548323
Option 4 ID : 264330548326
Status : Answered
Chosen Option : 2

Q.7 दी गई श्रृंखला में निम्नलिखित में से कौन-सा अक्षर-समूह प्रश्न चिन्ह (?) के स्थान पर आएगा?
XG, UJ, RM, OP, ?

- Ans
- 1. MS
 - 2. LR
 - 3. LS
 - 4. MR

Question Type : MCQ
Question ID : 264330140472
Option 1 ID : 264330550267
Option 2 ID : 264330550270
Option 3 ID : 264330550268
Option 4 ID : 264330550269
Status : Answered
Chosen Option : 3

Q.8 एक निश्चित कूट भाषा में, 'IGNORE' को 'REONGI' लिखा जाता है। उस भाषा में 'JUNIOR' को कैसे लिखा जाएगा?

- Ans
- 1. ORIUNJ
 - 2. ORIJUN
 - 3. OIRNUJ
 - 4. ORINUJ

Question Type : MCQ
Question ID : 264330140417
Option 1 ID : 264330550049
Option 2 ID : 264330550050
Option 3 ID : 264330550048
Option 4 ID : 264330550047
Status : Answered
Chosen Option : 4

Q.9 उस विकल्प को चुनिए जो तीसरी संख्या से ठीक उसी तरह संबंधित है जिस तरह दूसरी संख्या पहली संख्या से संबंधित है।

14 : 75 :: 11 : ?

Ans 1. 78

2. 64

3. 55

4. 60

Question Type : **MCQ**

Question ID : **264330138780**

Option 1 ID : **264330543730**

Option 2 ID : **264330543729**

Option 3 ID : **264330543728**

Option 4 ID : **264330543727**

Status : **Answered**

Chosen Option : **4**

Q.10 उस विकल्प को चुनिए जो पाँचवें पद से ठीक उसी प्रकार संबंधित है जिस प्रकार दूसरा पद पहले पद से संबंधित है और चौथा पद तीसरे पद से संबंधित है।

TRA : XNO :: GBT : QXB :: NOQ : ?

Ans 1. NIJ

2. NII

3. NKI

4. NKJ

Question Type : **MCQ**

Question ID : **264330139973**

Option 1 ID : **264330548271**

Option 2 ID : **264330548274**

Option 3 ID : **264330548272**

Option 4 ID : **264330548273**

Status : **Answered**

Chosen Option : **2**

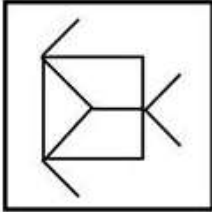
Q.11 उस विकल्प आकृति को चुनिए जिसमें दी गई आकृति (X) इसके भाग के रूप में निहित है। (घूर्णन की अनुमति नहीं है)।



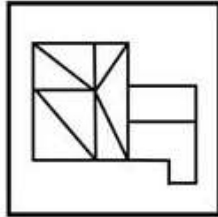
(X)

Ans

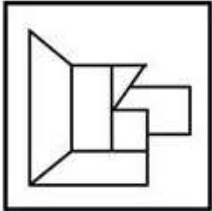
✗ 1.



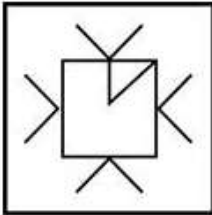
✓ 2.



✗ 3.



✗ 4.



Question Type : MCQ

Question ID : 264330140050

Option 1 ID : 264330548581

Option 2 ID : 264330548582

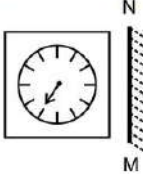
Option 3 ID : 264330548579

Option 4 ID : 264330548580

Status : Answered


Chosen Option : 2

Q.12 दी गई आकृति के उस सही दर्पण प्रतिबिंब को चुनिए, जो दर्पण MN को आकृति के दाईं ओर रखने पर बनेगा।




Ans


✗ 1.



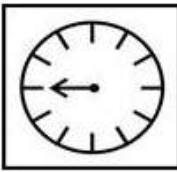
✓ 2.



✗ 3.



✗ 4.



Question Type : MCQ

Question ID : 264330138806

Option 1 ID : 264330543832

Option 2 ID : 264330543833

Option 3 ID : 264330543831

Option 4 ID : 264330543834

Status : Answered

Chosen Option : 2

Q.13 एक निश्चित कूट भाषा में, 'JPTM' को '9421' लिखा जाता है, 'MOST' को '3279' लिखा जाता है, 'OPJB' को '4617' लिखा जाता है। उस कूट भाषा में 'S' को कैसे लिखा जाएगा?

Ans ✗ 1. 2

✓ 2. 3

✗ 3. 9

✗ 4. 7

Question Type : MCQ

Question ID : 264330139552

Option 1 ID : 264330546625

Option 2 ID : 264330546623

Option 3 ID : 264330546626

Option 4 ID : 264330546624

Status : Answered

Chosen Option : 2

Q.14 पाँच दुकानों M1, M2, M3, M4 और M5 में पेन की संख्या की तुलना की जाती है। M3 में पेन की संख्या केवल M1 से अधिक है। कोई भी दो दुकानों में पेन की संख्या समान नहीं है। M4 में पेन की संख्या M2 से कम लेकिन M5 से अधिक है। M4 में पेन की संख्या कितनी दुकानों से अधिक है?

- Ans**
- 1. 2
 - 2. 3
 - 3. 4
 - 4. 1

Question Type : **MCQ**

Question ID : **264330140061**

Option 1 ID : **264330548625**

Option 2 ID : **264330548624**

Option 3 ID : **264330548626**

Option 4 ID : **264330548623**

Status : **Answered**

Chosen Option : **2**

Q.15 पाँच मित्र माही, मिलि, मिलन, मानस, और मोनिका एक बेंच पर उत्तर की ओर मुख करके बैठे हैं। मिलि और मोनिका के बीच केवल माही बैठी है। मानस, मिलि के ठीक बाईं ओर बैठा है। मानस सबसे आखिर में नहीं बैठा है। मिलन के ठीक दाईं ओर कौन बैठा है?

- Ans**
- 1. मानस
 - 2. मिलि
 - 3. मोनिका
 - 4. माही

Question Type : **MCQ**

Question ID : **264330138794**

Option 1 ID : **264330543785**

Option 2 ID : **264330543784**

Option 3 ID : **264330543786**

Option 4 ID : **264330543783**

Status : **Answered**

Chosen Option : **1**

Q.16 निम्नलिखित प्रश्न में कुछ कथन दिए गए हैं और उन कथनों के आधार पर कुछ निष्कर्ष दिए गए हैं। आपको मानना है कि दिए गए कथन सत्य हैं चाहे वे समान्यतः जात तथ्यों से अलग प्रतीत होते हों। सभी निष्कर्षों को पढ़िए और फिर निश्चय कीजिए कि दिए गए निष्कर्षों में से कौन-सा निष्कर्ष तार्किक रूप से दिए गए कथनों के अनुसार है।

कथन:

- I. सभी भूमि, ठोस हैं।
- II. कोई भूमि, लड़का नहीं है।

निष्कर्ष:

- I. सभी ठोस, भूमि हैं।
- II. सभी लड़के, ठोस हैं।

- Ans**
1. दोनों निष्कर्ष I और II कथनों के अनुसार हैं
 2. केवल निष्कर्ष I कथनों के अनुसार है
 3. केवल निष्कर्ष II कथनों के अनुसार है
 4. कोई भी निष्कर्ष कथनों के अनुसार नहीं है

Question Type : MCQ

Question ID : 264330140985

Option 1 ID : 264330552289

Option 2 ID : 264330552287

Option 3 ID : 264330552288

Option 4 ID : 264330552290

Status : Answered

Chosen Option : 2

Q.17 उस विकल्प को चुनिए जो तीसरे शब्द से ठीक उसी तरह संबंधित है जिस तरह दूसरा शब्द पहले शब्द से संबंधित है।
घोड़े : हिनहिनाना :: मेंढक : ?

- Ans**
1. उभयचर
 2. टरटराना
 3. दहाड़ना
 4. भौंकना

Question Type : MCQ

Question ID : 264330140114

Option 1 ID : 264330548837

Option 2 ID : 264330548836

Option 3 ID : 264330548838

Option 4 ID : 264330548835

Status : Answered

Chosen Option : 2

Q.18 उस समुच्चय को चुनिए जिसमें संख्याएँ ठीक उसी प्रकार से संबंधित हैं जिस प्रकार निम्नलिखित समुच्चयों की संख्याएँ संबंधित हैं। (ध्यान दें: संख्याओं को उनके घटक अंकों में अलग-अलग किए बिना, पूर्ण संख्याओं पर संक्रियाएँ की जानी चाहिए। उदा. 13 - 13 पर संक्रियाएँ जैसे 13 को जोड़ना /घटाना /गुणा करना आदि किया जा सकता है। 13 को 1 और 3 में अलग-अलग करने की और फिर 1 और 3 पर गणितीय संक्रियाएँ करने की अनुमति नहीं है)
(2, 7, 81)
(5, 6, 121)

- Ans**
- 1. (6, 2, 36)
 - 2. (7, 5, 134)
 - 3. (6, 7, 169)
 - 4. (5, 4, 100)

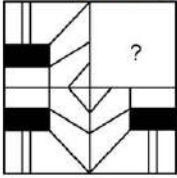
Question Type : **MCQ**
Question ID : **264330140127**
Option 1 ID : **264330548889**
Option 2 ID : **264330548890**
Option 3 ID : **264330548888**
Option 4 ID : **264330548887**
Status : **Not Answered**
Chosen Option : --

Q.19 दी गई श्रृंखला में निम्नलिखित में से कौन-सी संख्या प्रश्न चिन्ह (?) के स्थान पर आएगी?
29, 36, 44, 53, 63, ?

- Ans**
- 1. 78
 - 2. 74
 - 3. 72
 - 4. 76

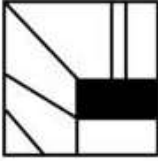
Question Type : **MCQ**
Question ID : **264330140483**
Option 1 ID : **264330550313**
Option 2 ID : **264330550311**
Option 3 ID : **264330550314**
Option 4 ID : **264330550312**
Status : **Answered**
Chosen Option : **2**

Q.20 उस विकल्प आकृति को चुनिए जो नीचे दी गई आकृति में पैटर्न को पूरा करने के लिए प्रश्न चिन्ह (?) के स्थान पर आएगी। (घूर्णन की अनुमति नहीं है)।

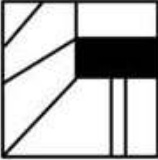


Ans

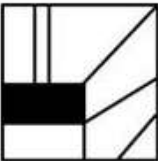
✓ 1.



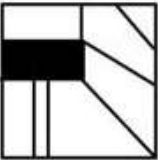
✗ 2.



✗ 3.



✗ 4.



Question Type : MCQ

Question ID : 264330140491

Option 1 ID : 264330550343

Option 2 ID : 264330550344

Option 3 ID : 264330550346

Option 4 ID : 264330550345

Status : Answered

Chosen Option : 1

Section : General Awareness

Q.1 चौसा और कन्नौज के युद्ध में किस शासक ने हुमायूँ को पराजित किया था?

- Ans
- 1. मुहम्मद आदिल शाह
 - 2. इस्लाम शाह
 - 3. अली आदिल शाह द्वितीय
 - 4. शेर शाह

Question Type : MCQ
Question ID : 264330140690
Option 1 ID : 264330551109
Option 2 ID : 264330551107
Option 3 ID : 264330551110
Option 4 ID : 264330551108
Status : Answered
Chosen Option : 4

Q.2 If we deduct depreciation from GNP the measure of aggregate income that we obtain is called _____.

- Ans
- 1. Net National Product
 - 2. Gross domestic product
 - 3. National income
 - 4. Private income

Question Type : MCQ
Question ID : 264330140775
Option 1 ID : 264330551447
Option 2 ID : 264330551449
Option 3 ID : 264330551450
Option 4 ID : 264330551448
Status : Answered
Chosen Option : 1

Q.3 महात्मा गांधी को "राष्ट्रपिता (Father of the Nation)" की उपाधि किसने दी थी?

- Ans
- 1. सुभाष चंद्र बोस
 - 2. सरदार वल्लभभाई पटेल
 - 3. रवीन्द्रनाथ टैगोर
 - 4. जवाहर लाल नेहरू

Question Type : MCQ
Question ID : 264330139747
Option 1 ID : 264330547405
Option 2 ID : 264330547406
Option 3 ID : 264330547404
Option 4 ID : 264330547403
Status : Answered
Chosen Option : 3

Q.4 जूडो की उत्पत्ति जू-जित्सु (Ju-jitsu) की प्राचीन _____ कला से हुई है।

- Ans
- 1. मलेशियाई
 - 2. चीनी
 - 3. जापानी
 - 4. कोरियाई

Question Type : MCQ
Question ID : 264330139870
Option 1 ID : 264330547860
Option 2 ID : 264330547859
Option 3 ID : 264330547861
Option 4 ID : 264330547862
Status : Answered
Chosen Option : 3

Q.5 एक संक्रामक बीमारी से उबरने के बाद, खास तौर पर चेचक से उबरने पर, स्थानीय देवता को धन्यवाद देने के लिए आमतौर पर ब्रिता (Brita) नृत्य किया जाता है। यह _____ राज्य के सबसे प्रसिद्ध नृत्यों में से एक है।

- Ans
- 1. झारखंड
 - 2. उत्तरप्रदेश
 - 3. पश्चिम बंगाल
 - 4. बिहार

Question Type : MCQ
Question ID : 264330141048
Option 1 ID : 264330552540
Option 2 ID : 264330552539
Option 3 ID : 264330552542
Option 4 ID : 264330552541
Status : Answered
Chosen Option : 1

Q.6 कर्तन - दहन प्रणाली (slash and burn) कृषि को _____ राज्य में 'बेबर' या 'दहिया' के नाम से जाना जाता है।

- Ans
- 1. उत्तरप्रदेश
 - 2. असम
 - 3. मध्यप्रदेश
 - 4. उड़ीसा

Question Type : MCQ
Question ID : 264330140710
Option 1 ID : 264330551188
Option 2 ID : 264330551189
Option 3 ID : 264330551187
Option 4 ID : 264330551190
Status : Answered
Chosen Option : 2

Q.7 भारत निम्नलिखित में से किस देश के साथ सबसे लंबी भूमि सीमा साझा करता है?

- Ans
- 1. नेपाल
 - 2. बांग्लादेश
 - 3. पाकिस्तान
 - 4. चीन

Question Type : MCQ
Question ID : 264330139767
Option 1 ID : 264330547486
Option 2 ID : 264330547485
Option 3 ID : 264330547484
Option 4 ID : 264330547483
Status : Answered
Chosen Option : 2

Q.8 पीएम स्वनिधि (PM SVANidhi) योजना का उद्देश्य _____ को सशक्त बनाना है।

- Ans
- 1. बीपीएल परिवारों (BPL Families)
 - 2. छोटे व्यवसायियों (Small Businessman)
 - 3. पथ विक्रेताओं (Street Vendors)
 - 4. गर्भवती महिलाओं (Pregnant women)

Question Type : MCQ
Question ID : 264330139682
Option 1 ID : 264330547143
Option 2 ID : 264330547145
Option 3 ID : 264330547144
Option 4 ID : 264330547146
Status : Answered
Chosen Option : 1

Q.9 _____ फूल का मादा जनन अंग है।

- Ans
- 1. तंतु
 - 2. परागकोश
 - 3. अंकुरण
 - 4. स्त्रीकेसर

Question Type : MCQ
Question ID : 264330140894
Option 1 ID : 264330551923
Option 2 ID : 264330551924
Option 3 ID : 264330551926
Option 4 ID : 264330551925
Status : Answered
Chosen Option : 4

Q.10 सत्यजीत रे को वर्ष 1992 में भारत रत्न से सम्मानित किया गया था। वह एक प्रसिद्ध _____ थे।

- Ans
- ✓ 1. फिल्म निर्माता और निर्देशक
 - ✗ 2. क्रिकेटर
 - ✗ 3. वकील
 - ✗ 4. भौतिक विज्ञानी

Question Type : MCQ
Question ID : 264330139706
Option 1 ID : 264330547241
Option 2 ID : 264330547239
Option 3 ID : 264330547240
Option 4 ID : 264330547242
Status : Answered
Chosen Option : 1

Q.11 वह 'घटम के देवता (God of ghatam)' के नाम से भी जाने जाते हैं। पिछली पंक्ति में 'वह' निम्न में से किसे संदर्भित करता है?

- Ans
- ✓ 1. टी.एच. विनायकराम
 - ✗ 2. उस्ताद बुंदू खां
 - ✗ 3. पंडित रविशंकर
 - ✗ 4. उस्ताद बिस्मिल्लाह खां

Question Type : MCQ
Question ID : 264330140887
Option 1 ID : 264330551895
Option 2 ID : 264330551896
Option 3 ID : 264330551897
Option 4 ID : 264330551898
Status : Answered
Chosen Option : 2

Q.12 "ओलिवर ट्विस्ट (Oliver Twist)" उपन्यास के लेखक कौन हैं?

- Ans
- ✓ 1. चार्ल्स डिकेन्स (Charles Dickens)
 - ✗ 2. ऑस्कर वाइल्ड (Oscar Wilde)
 - ✗ 3. मार्क ट्वेन (Mark Twain)
 - ✗ 4. जेन ऑस्टेन (Jane Austen)

Question Type : MCQ
Question ID : 264330140384
Option 1 ID : 264330549917
Option 2 ID : 264330549916
Option 3 ID : 264330549915
Option 4 ID : 264330549918
Status : Answered
Chosen Option : 1

Q.13 विश्व का वह एकमात्र देश कौन-सा है जहाँ बाघ और शेर दोनों पाए जाते हैं?

- Ans
- 1. दक्षिण अफ्रीका
 - 2. केन्या
 - 3. चीन
 - 4. भारत

Question Type : MCQ
Question ID : 264330139766
Option 1 ID : 264330547479
Option 2 ID : 264330547480
Option 3 ID : 264330547481
Option 4 ID : 264330547482
Status : Answered
Chosen Option : 4

Q.14 निम्नलिखित में से किस गायक को भारत सरकार द्वारा 2022 में पद्म श्री से सम्मानित किया गया है?

- Ans
- 1. लेस्ली लुईस (Leslie Lewis)
 - 2. अभिजीत भट्टाचार्य
 - 3. अनु मलिक
 - 4. सोनू निगम

Question Type : MCQ
Question ID : 264330140694
Option 1 ID : 264330551123
Option 2 ID : 264330551124
Option 3 ID : 264330551126
Option 4 ID : 264330551125
Status : Answered
Chosen Option : 4

Q.15 पोंगल, मकर संक्रांति का ही दूसरा नाम है तथा यह मकर संक्रांति के समय ही _____ राज्य के विभिन्न शहरों में मनाया जाता है।

- Ans
- 1. तमिलनाडु
 - 2. आंध्रप्रदेश
 - 3. कर्नाटक
 - 4. केरल

Question Type : MCQ
Question ID : 264330141049
Option 1 ID : 264330552544
Option 2 ID : 264330552546
Option 3 ID : 264330552545
Option 4 ID : 264330552543
Status : Answered
Chosen Option : 1

Q.16 महाबोधि मंदिर परिसर का _____ के जीवन से सीधा संबंध है।

- Ans
- 1. मुगल शासक
 - 2. सिख गुरु
 - 3. भगवान बुद्ध
 - 4. जैन तीर्थंकर

Question Type : MCQ
Question ID : 264330140730
Option 1 ID : 264330551267
Option 2 ID : 264330551268
Option 3 ID : 264330551270
Option 4 ID : 264330551269
Status : Answered
Chosen Option : 3

Q.17 भोजन पकाने की निम्नलिखित में से किस प्रक्रिया में भोजन में मौजूद चीनी ऑक्सीकृत होकर भूरे रंग में बदल जाती है?

- Ans
- 1. निस्स्यंदन
 - 2. कैरामेलीकरण (Caramelisation)
 - 3. ब्रोमीनन (Bromination)
 - 4. पायसीकरण

Question Type : MCQ
Question ID : 264330140708
Option 1 ID : 264330551180
Option 2 ID : 264330551181
Option 3 ID : 264330551182
Option 4 ID : 264330551179
Status : Answered
Chosen Option : 4

Q.18 कौन-सी ओडिशी नृत्यांगना 2006 में पद्म श्री से सम्मानित होने वाली विदेशी मूल की पहली नर्तकी बनी थी?

- Ans
- 1. सोफिया बुटेला (Sofia Boutella)
 - 2. एरी नाकामुरा (Eri Nakamura)
 - 3. इलियाना सितारिस्ती (Ileana Citaristi)
 - 4. मृणालिनी साराभाई (Mrinalini Sarabhai)

Question Type : MCQ
Question ID : 264330140925
Option 1 ID : 264330552049
Option 2 ID : 264330552050
Option 3 ID : 264330552047
Option 4 ID : 264330552048
Status : Answered
Chosen Option : 1

Q.19 निम्नलिखित में से कौन दक्षिण भारत की एक प्रमुख जनजाति नहीं है?

- Ans
- 1. बडागा (Badaga)
 - 2. डांग (Dang)
 - 3. टोडा (Toda)
 - 4. इरुला (Irula)

Question Type : MCQ
Question ID : 264330138966
Option 1 ID : 264330544473
Option 2 ID : 264330544474
Option 3 ID : 264330544472
Option 4 ID : 264330544471
Status : Answered
Chosen Option : 2

Q.20 ब्रिटिश सरकार द्वारा चंपारण कृषि कानून कब पारित किया गया था?

- Ans
- 1. 1917
 - 2. 1918
 - 3. 1916
 - 4. 1919

Question Type : MCQ
Question ID : 264330140946
Option 1 ID : 264330552133
Option 2 ID : 264330552131
Option 3 ID : 264330552132
Option 4 ID : 264330552134
Status : Answered
Chosen Option : 1

Q.21 राज्यों के विधानसभा और विधायिका वाले केंद्रशासित प्रदेशों के आम चुनावों वाले वर्ष में _____ अतिरिक्त दिनों की चुनावी बॉन्ड की बिक्री की अनुमति देने के लिए चुनावी बॉन्ड योजना में संशोधन करते हुए केंद्रीय वित्त मंत्रालय ने एक अधिसूचना जारी की है।

- Ans
- 1. 15
 - 2. 35
 - 3. 25
 - 4. 45

Question Type : MCQ
Question ID : 264330140932
Option 1 ID : 264330552076
Option 2 ID : 264330552077
Option 3 ID : 264330552075
Option 4 ID : 264330552078
Status : Answered
Chosen Option : 4

Q.22 भारतीय संविधान के निम्नलिखित में से किस अनुच्छेद में मौलिक कर्तव्य "सार्वजनिक संपत्ति की रक्षा करना और हिंसा को त्यागना" का उल्लेख है?

- Ans
- 1. अनुच्छेद 51A (d)
 - 2. अनुच्छेद 51A (g)
 - 3. अनुच्छेद 51A (a)
 - 4. अनुच्छेद 51A (i)

Question Type : MCQ
Question ID : 264330139760
Option 1 ID : 264330547456
Option 2 ID : 264330547457
Option 3 ID : 264330547455
Option 4 ID : 264330547458
Status : Answered
Chosen Option : 2

Q.23 निम्नलिखित में से कौन फ़ारस के राजा का एक राजदूत था जिसे विजयनगर भेजा गया था?

- Ans
- 1. निकोलो दे कॉन्ती (Nicolo de Conti)
 - 2. फ़र्नावो नूनिज़ (Fernaõ Nuniz)
 - 3. दुआर्ते बरबोसा (Duarte Barbosa)
 - 4. अब्दुर रज़्ज़ाक (Abdur Razzaq)

Question Type : MCQ
Question ID : 264330140903
Option 1 ID : 264330551959
Option 2 ID : 264330551961
Option 3 ID : 264330551960
Option 4 ID : 264330551962
Status : Answered
Chosen Option : 4

Q.24 _____ और _____ के ऑक्साइड वर्षाजल में घुल जाते हैं और अम्ल बनाते हैं जिसे अम्लवर्षा कहा जाता है।

- Ans
- 1. फास्फोरस, सल्फर
 - 2. कैल्शियम, मैग्नीशियम
 - 3. सल्फर, नाइट्रोजन
 - 4. कार्बन डाइऑक्साइड, मीथेन

Question Type : MCQ
Question ID : 264330139739
Option 1 ID : 264330547373
Option 2 ID : 264330547374
Option 3 ID : 264330547372
Option 4 ID : 264330547371
Status : Answered
Chosen Option : 1

Q.25 "जनजातीय गौरव दिवस (Janjatiya Gaurav Diwas)" _____ की जयंती पर मनाया जाता है।

- Ans
- 1. महात्मा गांधी
 - 2. बी.आर. अम्बेडकर
 - 3. सरदार वल्लभभाई पटेल
 - 4. बिरसा मुंडा

Question Type : MCQ
Question ID : 264330140889
Option 1 ID : 264330551904
Option 2 ID : 264330551906
Option 3 ID : 264330551903
Option 4 ID : 264330551905
Status : Answered
Chosen Option : 4

Section : English Language and Comprehension

Q.1 Select the word from the options which is similar in meaning to the bracketed part given in the sentence below.
The women stared at me with (great interest or concern).

- Ans
- 1. possession
 - 2. curiosity
 - 3. control
 - 4. intellect

Question Type : MCQ
Question ID : 264330136178
Option 1 ID : 264330533509
Option 2 ID : 264330533507
Option 3 ID : 264330533510
Option 4 ID : 264330533508
Status : Answered
Chosen Option : 2

Q.2 Select the correctly spelt word.

- Ans
- 1. ubiquitous
 - 2. ubquitous
 - 3. ubiqoitous
 - 4. ubiquitous

Question Type : MCQ
Question ID : 264330136505
Option 1 ID : 264330534763
Option 2 ID : 264330534765
Option 3 ID : 264330534766
Option 4 ID : 264330534764
Status : Answered
Chosen Option : 4

Q.3 Four sentences are given, out of which three have spelling errors. Choose the sentence with all correctly spelled words.

Ans ✗ 1. It turns out multiple groups have measured the concensus.

✗ 2. The proposed cuts have caused considerable controversy.

✗ 3.

She was in a bouyant mood and was looking forward to her new life.

✓ 4. The companies may lose a lot of their overseas exposure.

Question Type : **MCQ**

Question ID : **264330135764**

Option 1 ID : **264330531936**

Option 2 ID : **264330531935**

Option 3 ID : **264330531938**

Option 4 ID : **264330531937**

Status : **Answered**

Chosen Option : **4**

Q.4 Fill in the blank with the most appropriate option.

Aunt Petunia was _____ a box of after-dinner mints.

Ans ✗ 1. passing round

✓ 2. passing around

✗ 3. passed away

✗ 4. passed around

Question Type : **MCQ**

Question ID : **264330135852**

Option 1 ID : **264330532278**

Option 2 ID : **264330532276**

Option 3 ID : **264330532277**

Option 4 ID : **264330532275**

Status : **Answered**

Chosen Option : **2**

Q.5 Fill in the blank with the most appropriate option.

I wanted to _____ things that girls weren't supposed to do.

Ans ✗ 1. do allot of

✓ 2. do a lot of

✗ 3. do a lot off

✗ 4. done a lot of

Question Type : **MCQ**

Question ID : **264330135851**

Option 1 ID : **264330532274**

Option 2 ID : **264330532273**

Option 3 ID : **264330532272**

Option 4 ID : **264330532271**

Status : **Answered**

Chosen Option : **2**

Q.6 Select the most appropriate antonym of the given word.

Impertinent

- Ans
- 1. Polite
 - 2. Insolent
 - 3. Irrelevant
 - 4. Personal

Question Type : MCQ
Question ID : 264330136362
Option 1 ID : 264330534217
Option 2 ID : 264330534215
Option 3 ID : 264330534218
Option 4 ID : 264330534216
Status : Answered
Chosen Option : 1

Q.7 Select the most appropriate word for the given group of words.

A state of agitation especially over a trivial matter

- Ans
- 1. Worry
 - 2. Fuss
 - 3. Harmony
 - 4. Storm

Question Type : MCQ
Question ID : 264330136279
Option 1 ID : 264330533898
Option 2 ID : 264330533896
Option 3 ID : 264330533895
Option 4 ID : 264330533897
Status : Answered
Chosen Option : 2

Q.8 Select the most appropriate option to substitute the bracketed segment in the given sentence. If there is no need to substitute it, select 'no substitution required'.

Besides the atmospheric changes that make us sweat, (hormonal or emotional stimulus can also cause sweating).

- Ans
- 1. hormonal and emotional stimuli also causes sweating
 - 2. hormonal or emotional stimuli can also cause sweating
 - 3. hormonal or emotional stimulus also causing sweating
 - 4. No substitution required

Question Type : MCQ
Question ID : 264330135667
Option 1 ID : 264330531565
Option 2 ID : 264330531564
Option 3 ID : 264330531563
Option 4 ID : 264330531566
Status : Answered
Chosen Option : 3

Q.9 The statement below has been given with bracketed text. Select the option with correct Idiom for the bracketed text.
That's just like Julie – always (coming to conclusions too quickly) even before she knows the facts.

- Ans**
- 1. jumping in with both feet
 - 2. biting her own tongue
 - 3. raring to go
 - 4. sailing in the same boat

Question Type : **MCQ**
Question ID : **264330135736**
Option 1 ID : **264330531830**
Option 2 ID : **264330531827**
Option 3 ID : **264330531829**
Option 4 ID : **264330531828**
Status : **Answered**
Chosen Option : **1**

Q.10 Find the part of the given sentence that has an error in it. If there is no error, choose 'No error'.
The 1918 influenza pandemic sweep the world within months.

- Ans**
- 1. pandemic sweep the
 - 2. No error
 - 3. The 1918 influenza
 - 4. world within months.

Question Type : **MCQ**
Question ID : **264330135230**
Option 1 ID : **264330529844**
Option 2 ID : **264330529846**
Option 3 ID : **264330529843**
Option 4 ID : **264330529845**
Status : **Answered**
Chosen Option : **1**

Q.11 Identify the segment that contains a grammatical error. If there is no error, select 'No error'.
He best understand that / because of the fight it is no / longer his decision to make.

- Ans**
- 1. He best understand that
 - 2. No error
 - 3. because of the fight it is no
 - 4. longer his decision to make.

Question Type : **MCQ**
Question ID : **264330135716**
Option 1 ID : **264330531751**
Option 2 ID : **264330531754**
Option 3 ID : **264330531752**
Option 4 ID : **264330531753**
Status : **Answered**
Chosen Option : **1**

Q.12 Select the most appropriate option to fill in the blank.

She _____ and left the room, carefully pulling the door shut.

- Ans
- 1. side
 - 2. site
 - 3. sighed
 - 4. slide

Question Type : MCQ
Question ID : 264330135176
Option 1 ID : 264330529638
Option 2 ID : 264330529636
Option 3 ID : 264330529637
Option 4 ID : 264330529635
Status : Answered
Chosen Option : 4

Q.13 Select the word segment that substitutes (replaces) the bracketed word segment correctly and completes the sentence meaningfully. Select the option 'no correction required' if the sentence is correct as given.
The relationship between two people is (by the way in what) they feel and behave towards each other.

- Ans
- 1. the way by which
 - 2. No correction required
 - 3. by which ways
 - 4. the way in which

Question Type : MCQ
Question ID : 264330135694
Option 1 ID : 264330531669
Option 2 ID : 264330531670
Option 3 ID : 264330531668
Option 4 ID : 264330531667
Status : Answered
Chosen Option : 1

Q.14 Select the most appropriate word for the given group of words.

Sets of principles concerned with the nature and appreciation of beauty

- Ans
- 1. Aesthetics
 - 2. Asylum
 - 3. Atonement
 - 4. Aspersion

Question Type : MCQ
Question ID : 264330136498
Option 1 ID : 264330534738
Option 2 ID : 264330534736
Option 3 ID : 264330534735
Option 4 ID : 264330534737
Status : Answered
Chosen Option : 1

Q.15 Select the word segment that substitutes (replaces) the bracketed word segment correctly and completes the sentence meaningfully. Select the option 'no correction required' if the sentence is correct as given.
Welcome to the Ministry of Magic, (please administer your name) and business.

- Ans**
- 1. No correction required
 - 2. please inform your entitle
 - 3. please direct your name
 - 4. please state your name

Question Type : **MCQ**
Question ID : **264330136139**
Option 1 ID : **264330533362**
Option 2 ID : **264330533361**
Option 3 ID : **264330533359**
Option 4 ID : **264330533360**
Status : **Answered**
Chosen Option : **1**

Q.16 In the following question, out of the given four alternatives, select the alternative which best expresses the meaning of the Idiom/Phrase.
As easy as pie

- Ans**
- 1. Difficult choice
 - 2. Tasteful
 - 3. Auspicious
 - 4. Very easy

Question Type : **MCQ**
Question ID : **264330135250**
Option 1 ID : **264330529919**
Option 2 ID : **264330529921**
Option 3 ID : **264330529922**
Option 4 ID : **264330529920**
Status : **Answered**
Chosen Option : **4**

Q.17 Fill in the blank with the most appropriate choice.
In more civilized times even the most _____ enemies were treated with dignity.

- Ans**
- 1. ineducable
 - 2. vindicable
 - 3. explicable
 - 4. implacable

Question Type : **MCQ**
Question ID : **264330135844**
Option 1 ID : **264330532246**
Option 2 ID : **264330532244**
Option 3 ID : **264330532243**
Option 4 ID : **264330532245**
Status : **Answered**
Chosen Option : **2**

Q.18 Find the part of the given sentence that has an error in it. If there is no error, choose 'No error'.

If I was your sister, I would have never slapped you.

- Ans**
- 1. sister, I would have
 - 2. never slapped you.
 - 3. No error
 - 4. If I was your

Question Type : **MCQ**
Question ID : **264330135639**
Option 1 ID : **264330531456**
Option 2 ID : **264330531457**
Option 3 ID : **264330531458**
Option 4 ID : **264330531455**
Status : **Answered**
Chosen Option : **4**

Q.19 Select the most appropriate synonym of the given word.

Capricious

- Ans**
- 1. Stable
 - 2. Cautious
 - 3. Steadfast
 - 4. Arbitrary

Question Type : **MCQ**
Question ID : **264330136499**
Option 1 ID : **264330534741**
Option 2 ID : **264330534739**
Option 3 ID : **264330534742**
Option 4 ID : **264330534740**
Status : **Answered**
Chosen Option : **4**

Q.20 Select the appropriate antonym for the underlined word.

His gray, lifeless eyes were sunken.

- Ans**
- 1. pointed
 - 2. vibrant
 - 3. lapsed
 - 4. extinct

Question Type : **MCQ**
Question ID : **264330135554**
Option 1 ID : **264330531118**
Option 2 ID : **264330531116**
Option 3 ID : **264330531117**
Option 4 ID : **264330531115**
Status : **Answered**
Chosen Option : **1**

Comprehension:

In the following passage some words have been deleted. Fill in the blanks with the help of the alternatives given. Select the most appropriate option for each number.

Louisiana hosts one of the (1) _____ well known celebrations - Mardi Gras. Mardi Gras is French for "Fat Tuesday". This (2) _____ is sometimes called "Shrove Tuesday". (3) _____ wear masks and costumes, overturn social conventions, dance, organize competitions and parades. Related popular practices (4) _____ associated with celebrations before the fasting and religious obligations associated (5) _____ the penitential season of Lent.

SubQuestion No : 21

Q.21 Select the most appropriate option to fill in the blank No. 1.

- Ans**
- 1. more
 - 2. some
 - 3. all
 - 4. most

Question Type : **MCQ**

Question ID : **264330136752**

Option 1 ID : **264330535712**

Option 2 ID : **264330535714**

Option 3 ID : **264330535711**

Option 4 ID : **264330535713**

Status : **Answered**

Chosen Option : **4**

Comprehension:

In the following passage some words have been deleted. Fill in the blanks with the help of the alternatives given. Select the most appropriate option for each number.

Louisiana hosts one of the (1) _____ well known celebrations - Mardi Gras. Mardi Gras is French for "Fat Tuesday". This (2) _____ is sometimes called "Shrove Tuesday". (3) _____ wear masks and costumes, overturn social conventions, dance, organize competitions and parades. Related popular practices (4) _____ associated with celebrations before the fasting and religious obligations associated (5) _____ the penitential season of Lent.

SubQuestion No : 22

Q.22 Select the most appropriate option to fill in the blank No. 2.

- Ans**
- 1. vocation
 - 2. holiday
 - 3. vacation
 - 4. variation

Question Type : **MCQ**

Question ID : **264330136753**

Option 1 ID : **264330535717**

Option 2 ID : **264330535715**

Option 3 ID : **264330535716**

Option 4 ID : **264330535718**

Status : **Answered**

Chosen Option : **2**

Comprehension:

In the following passage some words have been deleted. Fill in the blanks with the help of the alternatives given. Select the most appropriate option for each number.

Louisiana hosts one of the (1) _____ well known celebrations - Mardi Gras. Mardi Gras is French for "Fat Tuesday". This (2) _____ is sometimes called "Shrove Tuesday". (3) _____ wear masks and costumes, overturn social conventions, dance, organize competitions and parades. Related popular practices (4) _____ associated with celebrations before the fasting and religious obligations associated (5) _____ the penitential season of Lent.

SubQuestion No : 23

Q.23 Select the most appropriate option to fill in the blank No. 3.

- Ans
- 1. Animals
 - 2. Birds
 - 3. Plants
 - 4. People

Question Type : **MCQ**

Question ID : **264330136754**

Option 1 ID : **264330535722**

Option 2 ID : **264330535719**

Option 3 ID : **264330535720**

Option 4 ID : **264330535721**

Status : **Answered**

Chosen Option : **4**

Comprehension:

In the following passage some words have been deleted. Fill in the blanks with the help of the alternatives given. Select the most appropriate option for each number.

Louisiana hosts one of the (1) _____ well known celebrations - Mardi Gras. Mardi Gras is French for "Fat Tuesday". This (2) _____ is sometimes called "Shrove Tuesday". (3) _____ wear masks and costumes, overturn social conventions, dance, organize competitions and parades. Related popular practices (4) _____ associated with celebrations before the fasting and religious obligations associated (5) _____ the penitential season of Lent.

SubQuestion No : 24

Q.24 Select the most appropriate option to fill in the blank No. 4.

- Ans
- 1. have
 - 2. were
 - 3. is
 - 4. will be

Question Type : **MCQ**

Question ID : **264330136755**

Option 1 ID : **264330535725**

Option 2 ID : **264330535723**

Option 3 ID : **264330535726**

Option 4 ID : **264330535724**

Status : **Answered**

Chosen Option : **2**

Comprehension:

In the following passage some words have been deleted. Fill in the blanks with the help of the alternatives given. Select the most appropriate option for each number.

Louisiana hosts one of the (1) _____ well known celebrations - Mardi Gras. Mardi Gras is French for "Fat Tuesday". This (2) _____ is sometimes called "Shrove Tuesday". (3) _____ wear masks and costumes, overturn social conventions, dance, organize competitions and parades. Related popular practices (4) _____ associated with celebrations before the fasting and religious obligations associated (5) _____ the penitential season of Lent.

SubQuestion No : 25

Q.25 Select the most appropriate option to fill in the blank No. 5.

- Ans**
- 1. of
 - 2. from
 - 3. off
 - 4. with

Question Type : **MCQ**

Question ID : **264330136756**

Option 1 ID : **264330535728**

Option 2 ID : **264330535730**

Option 3 ID : **264330535727**

Option 4 ID : **264330535729**

Status : **Answered**

Chosen Option : **4**

Multi Tasking Non Technical Staff and Havaladar CBIC and CBN Examination 2022

Roll Number	KD Job Updates
Candidate Name	KD Job Updates
Venue Name	Aurobindo International School Jaipur
Exam Date	16/06/2023
Exam Time	3:30 PM - 5:00 PM
Subject	MTS Non Tech Havaladar CBIC and CBN Examination 2022

Section : Numerical and Mathematical Ability

Q.1 54 और 48 का महत्तम समापवर्तक (HCF) क्या होगा?

- Ans 1. 6
 2. 8
 3. 7
 4. 4

Question Type : MCQ

Question ID : 264330140778

Option 1 ID : 264330551459

Option 2 ID : 264330551460

Option 3 ID : 264330551461

Option 4 ID : 264330551462

Status : Answered

Chosen Option : 1

Q.2 एक राशि पर 5 वर्षों का साधारण ब्याज Rs. 7590 है। ब्याज दर, पहले 3 वर्षों के लिए 6 प्रतिशत वार्षिक है और अगले 2 वर्षों के लिए 14 प्रतिशत वार्षिक है। वह राशि क्या है?

- Ans 1. Rs. 16500
 2. Rs. 17000
 3. Rs. 15000
 4. Rs. 14000

Question Type : MCQ

Question ID : 264330139942

Option 1 ID : 264330548147

Option 2 ID : 264330548148

Option 3 ID : 264330548150

Option 4 ID : 264330548149

Status : Answered

Chosen Option : 1

Q.3 एक व्यक्ति पहले 30 km की दूरी 60 मिनट में और अगले 40 km की दूरी 30 मिनट में तय करता है। पूरी यात्रा के दौरान उसकी औसत चाल क्या है?

- Ans
- ✓ 1. (140/3) km/hr
 - ✗ 2. 60 km/hr
 - ✗ 3. 30 km/hr
 - ✗ 4. (160/3) km/hr

Question Type : MCQ

Question ID : 264330139630

Option 1 ID : 264330546936

Option 2 ID : 264330546938

Option 3 ID : 264330546935

Option 4 ID : 264330546937

Status : Answered

Chosen Option : 1

Q.4 सचिन, रोहित से 12.5 प्रतिशत कम कुशल है। यदि सचिन अकेला किसी कार्य को 24 दिनों में पूरा कर सकता है, तो रोहित अकेले उसी कार्य को कितने दिनों में पूरा करेगा?

- Ans
- ✗ 1. 20 दिनों में
 - ✓ 2. 21 दिनों में
 - ✗ 3. 16 दिनों में
 - ✗ 4. 18 दिनों में

Question Type : MCQ

Question ID : 264330139911

Option 1 ID : 264330548026

Option 2 ID : 264330548025

Option 3 ID : 264330548023

Option 4 ID : 264330548024

Status : Answered

Chosen Option : 2

Q.5 एक घनाभ की लंबाई 10 cm है। यदि घनाभ की चौड़ाई उसकी लंबाई की आधी है और घनाभ की ऊँचाई उसकी लंबाई की दुगुनी है, तो घनाभ का पार्श्व पृष्ठीय क्षेत्रफल कितना है?

- Ans
- ✗ 1. 720 cm²
 - ✗ 2. 560 cm²
 - ✗ 3. 500 cm²
 - ✓ 4. 600 cm²

Question Type : MCQ

Question ID : 264330139601

Option 1 ID : 264330546821

Option 2 ID : 264330546820

Option 3 ID : 264330546819

Option 4 ID : 264330546822

Status : Answered

Chosen Option : 4

Q.6 513 और 1017 का महत्तम समापवर्तक (HCF) क्या है?

- Ans 1. 9
 2. 13
 3. 15
 4. 8

Question Type : MCQ
Question ID : 264330140228
Option 1 ID : 264330549291
Option 2 ID : 264330549293
Option 3 ID : 264330549294
Option 4 ID : 264330549292
Status : Answered
Chosen Option : 1

Q.7 एक व्यक्ति ने एक रुपए में 30 आम खरीदे। एक रुपए में कितने आम बेचने पर, उसे 40 प्रतिशत की हानि होती?

- Ans 1. 40
 2. 45
 3. 50
 4. 60

Question Type : MCQ
Question ID : 264330139594
Option 1 ID : 264330546792
Option 2 ID : 264330546791
Option 3 ID : 264330546793
Option 4 ID : 264330546794
Status : Answered
Chosen Option : 3

Q.8 एक व्यक्ति को एक स्थान तक पैदल चलकर जाने और वहाँ से पैदल चलकर वापस आने में 20 घंटे लगते हैं। वह दोनों ओर गाड़ी से जाकर 4 घंटे का समय बचा सकता था। पूरी यात्रा में तय की गई दूरी 36 मील है। यदि वह पैदल चलकर जाता है और गाड़ी से वापस आता है, तो पूरी यात्रा के लिए उसकी औसत चाल ज्ञात कीजिए।

- Ans 1. 2 miles/hr
 2. 1 miles/hr
 3. 4 miles/hr
 4. 3 miles/hr

Question Type : MCQ
Question ID : 264330140780
Option 1 ID : 264330551467
Option 2 ID : 264330551470
Option 3 ID : 264330551469
Option 4 ID : 264330551468
Status : Answered
Chosen Option : 1

Q.9 $\frac{6}{13} \left[\frac{29}{12} + \frac{4}{18} \left(\frac{16}{12} + \frac{18}{9} \right) - \frac{46}{15} + \frac{23}{45} \right]$ का मान क्या है?

- Ans
- 1. -207/119
 - 2. -312/137
 - 3. -307/234
 - 4. -294/117

Question Type : MCQ
Question ID : 264330139968
Option 1 ID : 264330548253
Option 2 ID : 264330548252
Option 3 ID : 264330548251
Option 4 ID : 264330548254
Status : Answered
Chosen Option : 3

Q.10 क्रय मूल्य और विक्रय मूल्य के बीच का अंतर Rs.341 है। यदि लाभ प्रतिशत 22 प्रतिशत है, तो विक्रय मूल्य क्या है?

- Ans
- 1. Rs.1972
 - 2. Rs.1891
 - 3. Rs.1752
 - 4. Rs.1858

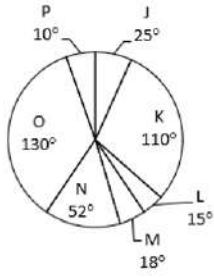
Question Type : MCQ
Question ID : 264330139595
Option 1 ID : 264330546796
Option 2 ID : 264330546795
Option 3 ID : 264330546797
Option 4 ID : 264330546798
Status : Answered
Chosen Option : 2

Q.11 10 cm त्रिज्या और 20 cm ऊँचाई वाले बेलन का वक्र पृष्ठीय क्षेत्रफल क्या होगा? ($\pi = 3.14$ प्रयोग करें)

- Ans
- 1. 1256 cm²
 - 2. 1345 cm²
 - 3. 1453 cm²
 - 4. 1234 cm²

Question Type : MCQ
Question ID : 264330140820
Option 1 ID : 264330551628
Option 2 ID : 264330551630
Option 3 ID : 264330551629
Option 4 ID : 264330551627
Status : Answered
Chosen Option : 1

Q.12 नीचे दिए गए वृत्त आलेख में एक व्यक्ति द्वारा 7 वस्तुओं पर किए गए खर्च को दर्शाया गया है। इन सभी 7 वस्तुओं का कुल खर्च 1800 है। इनमें से किसी एक विशिष्ट वस्तु पर किए गए खर्च को इन सभी 7 वस्तुओं पर किए गए कुल खर्च के सापेक्ष डिग्री में दर्शाया गया है।



वस्तु L पर किया गया खर्च, वस्तु P पर किए गए खर्च का कितना प्रतिशत है?

- Ans
- 1. 125 प्रतिशत
 - 2. 75 प्रतिशत
 - 3. 100 प्रतिशत
 - 4. 150 प्रतिशत

Question Type : MCQ

Question ID : 264330140582

Option 1 ID : 264330550681

Option 2 ID : 264330550679

Option 3 ID : 264330550682

Option 4 ID : 264330550680

Status : Answered

Chosen Option : 4

Q.13 46 लीटर और 50 लीटर के दो मिश्रणों में स्पिरिट और पानी का अनुपात क्रमशः 11:12 और 2:3 है। दोनों मिश्रणों को आपस में मिला दिया जाता है। नए मिश्रण में स्पिरिट और पानी का अनुपात ज्ञात कीजिए।

- Ans
- 1. 7:9
 - 2. 3:7
 - 3. 8:9
 - 4. 5:6

Question Type : MCQ

Question ID : 264330138416

Option 1 ID : 264330542272

Option 2 ID : 264330542271

Option 3 ID : 264330542274

Option 4 ID : 264330542273

Status : Answered

Chosen Option : 1

Q.14 Rs. 16000 के मूलधन का 4 वर्ष के लिए साधारण ब्याज पर निवेश किया जाता है। यदि ब्याज की वार्षिक दर 20 प्रतिशत है, तो 4 वर्ष बाद धनराशि कितनी होगी?

- Ans
- 1. Rs. 23480
 - 2. Rs. 26480
 - 3. Rs. 28800
 - 4. Rs. 30420

Question Type : MCQ

Question ID : 264330139941

Option 1 ID : 264330548143

Option 2 ID : 264330548144

Option 3 ID : 264330548146

Option 4 ID : 264330548145

Status : Answered

Chosen Option : 3

Q.15 Z1 और Z2 मिलकर एक कार्य को 15 दिनों में पूरा करते हैं। Z2 अकेले उसी कार्य को 30 दिनों में पूरा कर सकता है। उन्होंने साथ मिलकर कार्य पूरा करने के लिए Rs. 2000 लिए। इसमें Z1 का हिस्सा कितना होगा?

- Ans
- 1. Rs. 1000
 - 2. Rs. 1500
 - 3. Rs. 500
 - 4. Rs. 2000

Question Type : MCQ

Question ID : 264330140533

Option 1 ID : 264330550487

Option 2 ID : 264330550488

Option 3 ID : 264330550490

Option 4 ID : 264330550489

Status : Answered

Chosen Option : 1

Q.16 संख्याओं 49, 51 और 98 का चतुर्थ समानुपाती ज्ञात कीजिए

- Ans
- 1. 112
 - 2. 102
 - 3. 90
 - 4. 96

Question Type : MCQ

Question ID : 264330140182

Option 1 ID : 264330549108

Option 2 ID : 264330549107

Option 3 ID : 264330549109

Option 4 ID : 264330549110

Status : Answered

Chosen Option : 2

Q.17 नीचे दी गई तालिका में विभिन्न विषयों में लड़कों और लड़कियों द्वारा प्राप्त अंकों को दर्शाया गया है।

विषय	लड़के	लड़कियाँ
A	60	120
B	80	100
C	140	40
D	120	60
E	100	40

L1 = सभी विषयों में लड़कों और लड़कियों द्वारा प्राप्त अंकों के बीच का अंतर।

L2 = C, D और E में लड़कों द्वारा प्राप्त अंकों के औसत का मान।

(L1 - L2) का मान क्या है?

- Ans
- 1. 40
 - 2. 20
 - 3. 10
 - 4. 50

Question Type : MCQ

Question ID : 264330140551

Option 1 ID : 264330550560

Option 2 ID : 264330550562

Option 3 ID : 264330550561

Option 4 ID : 264330550559

Status : Answered

Chosen Option : 2

Q.18 यदि $A = 8X$ और $B = 6X$, तो A, B से कितने प्रतिशत अधिक है?

- Ans
- 1. 66.6 प्रतिशत
 - 2. 50 प्रतिशत
 - 3. 100 प्रतिशत
 - 4. 33.33 प्रतिशत

Question Type : MCQ

Question ID : 264330139613

Option 1 ID : 264330546868

Option 2 ID : 264330546869

Option 3 ID : 264330546870

Option 4 ID : 264330546867

Status : Answered

Chosen Option : 4

Q.19 अंकित मूल्य का 35 प्रतिशत क्रय मूल्य के 40 प्रतिशत के बराबर है। यदि कोई बड़ा नहीं दिया जाता है, तो लाभ प्रतिशत क्या होगा?

- Ans
- ✓ 1. 14.28 प्रतिशत
 - ✗ 2. 16.66 प्रतिशत
 - ✗ 3. 12.5 प्रतिशत
 - ✗ 4. 25 प्रतिशत

Question Type : MCQ
Question ID : 264330140623
Option 1 ID : 264330550840
Option 2 ID : 264330550839
Option 3 ID : 264330550842
Option 4 ID : 264330550841
Status : Answered
Chosen Option : 1

Q.20 एक त्रिभुज के कोणों का अनुपात 2 : 3 : 4 है। त्रिभुज के सबसे बड़े कोण का मान क्या है?

- Ans
- ✗ 1. 100 डिग्री
 - ✗ 2. 120 डिग्री
 - ✓ 3. 80 डिग्री
 - ✗ 4. 90 डिग्री

Question Type : MCQ
Question ID : 264330139899
Option 1 ID : 264330547977
Option 2 ID : 264330547978
Option 3 ID : 264330547976
Option 4 ID : 264330547975
Status : Answered
Chosen Option : 3

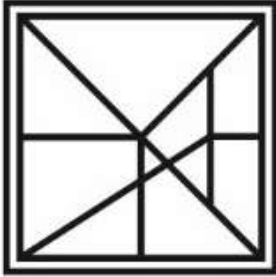
Section : Reasoning Ability and Problem Solving

Q.1 उस विकल्प आकृति को चुनिए जिसमें दी गई आकृति निहित है।(घूर्णन की अनुमति नहीं है)

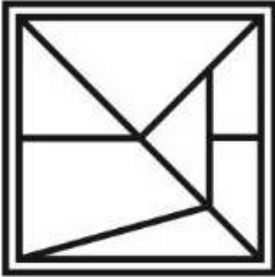


Ans

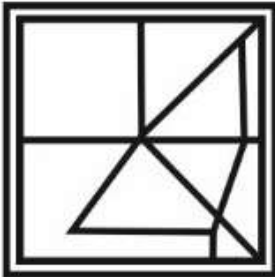
✓ 1.



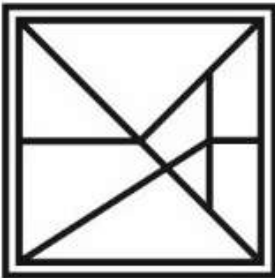
✗ 2.



✗ 3.



✗ 4.



Question Type : MCQ

Question ID : 264330139565

Option 1 ID : 264330546677

Option 2 ID : 264330546678

Option 3 ID : 264330546676

Option 4 ID : 264330546675

Status : Answered

Chosen Option : 1

Q.2 आठ लड़के B1, B2, B3, B4, B5, B6, B7 और B8 एक वृत्ताकार मेज के चारों ओर केंद्र की विपरीत दिशा की ओर मुख करके बैठे हैं (परंतु जरूरी नहीं कि वे इसी क्रम में बैठें हों)। B1, B3 के दाईं ओर से तीसरे स्थान पर है। B5, B3 के बाईं ओर से दूसरे स्थान पर है। B2, B4 के दाईं ओर से चौथे स्थान पर है। B4, B1 के दाईं ओर से दूसरे स्थान पर है। B8, B6 के बाईं ओर से तीसरे स्थान पर है। B6, B1 का निकटतम पड़ोसी नहीं है। B7 के दाईं ओर से तीसरे स्थान पर कौन है?

- Ans
- 1. B5
 - 2. B3
 - 3. B7
 - 4. B4

Question Type : MCQ
Question ID : 264330140983
Option 1 ID : 264330552279
Option 2 ID : 264330552282
Option 3 ID : 264330552281
Option 4 ID : 264330552280
Status : Answered
Chosen Option : 2

Q.3 निम्नलिखित प्रश्न में, दी गई श्रृंखला में लुप्त संख्या को चुनिए।

283, 295, 281, 297, 279, ?

- Ans
- 1. 294
 - 2. 298
 - 3. 299
 - 4. 291

Question Type : MCQ
Question ID : 264330139560
Option 1 ID : 264330546656
Option 2 ID : 264330546655
Option 3 ID : 264330546657
Option 4 ID : 264330546658
Status : Answered
Chosen Option : 3

Q.4 एक निश्चित कूट भाषा में, 'VRH' को 'TPJ' लिखा जाता है। उस भाषा में 'LYS' को कैसे लिखा जाएगा?

- Ans
- 1. JUW
 - 2. WUJ
 - 3. JWU
 - 4. JUT

Question Type : MCQ
Question ID : 264330137588
Option 1 ID : 264330538959
Option 2 ID : 264330538961
Option 3 ID : 264330538960
Option 4 ID : 264330538962
Status : Answered
Chosen Option : 3

Q.5 दिए गए दो चिहनों को आपस में बदलने पर, दिए गए समीकरण का मान क्या होगा?

+ और - ; $12 + 8 \times 6 \div 3 - 11$

- Ans 1. 7
 2. 8
 3. 9
 4. 5

Question Type : MCQ

Question ID : 264330139543

Option 1 ID : 264330546588

Option 2 ID : 264330546587

Option 3 ID : 264330546589

Option 4 ID : 264330546590

Status : Answered

Chosen Option : 1

Q.6 दी गई श्रृंखला में निम्नलिखित में से कौन-सा अक्षर प्रश्न चिन्ह (?) के स्थान पर आएगा?

T, Q, N, K, H, ?

- Ans 1. R
 2. P
 3. O
 4. E

Question Type : MCQ

Question ID : 264330140011

Option 1 ID : 264330548423

Option 2 ID : 264330548424

Option 3 ID : 264330548426

Option 4 ID : 264330548425

Status : Answered

Chosen Option : 4

Q.7 दिए गए समीकरण को सही करने के लिए किन दो संख्याओं को आपस में बदला जाना चाहिए?

$96 \div 3 - 24 + 16 \times 8 = 36$

- Ans 1. 8 और 3
 2. 8 और 16
 3. 96 और 24
 4. 24 और 3

Question Type : MCQ

Question ID : 264330140468

Option 1 ID : 264330550254

Option 2 ID : 264330550252

Option 3 ID : 264330550251

Option 4 ID : 264330550253

Status : Answered

Chosen Option : 1

Q.8 चार छात्र M, N, O, और P एक रेस्तरां में अपना ऑर्डर देने के लिए एक कतार में खड़े हैं। M, O के पीछे नहीं खड़ा है परंतु P के पीछे खड़ा है। O सबसे आखिर में ऑर्डर नहीं देता है। कतार में सबसे आगे कौन खड़ा है?

- Ans
- 1. N
 - 2. P
 - 3. O
 - 4. M

Question Type : MCQ

Question ID : 264330140079

Option 1 ID : 264330548696

Option 2 ID : 264330548698

Option 3 ID : 264330548697

Option 4 ID : 264330548695

Status : Answered

Chosen Option : 3

Q.9 उषा, सावित्री से बड़ी हैं। सुरुचि, निशा से छोटी है लेकिन उषा से बड़ी है। तानिया, रिनु से बड़ी है, लेकिन सावित्री से छोटी है। मनीषा सबसे छोटी हैं। इनमें से सबसे बड़ा कौन है?

- Ans
- 1. तानिया
 - 2. निशा
 - 3. मनीषा
 - 4. उषा

Question Type : MCQ

Question ID : 264330138775

Option 1 ID : 264330543709

Option 2 ID : 264330543707

Option 3 ID : 264330543710

Option 4 ID : 264330543708

Status : Answered

Chosen Option : 2

Q.10 तीन कथन दिए गए हैं और दो निष्कर्ष I और II दिए गए हैं। कथनों को सत्य मानते हुए, चाहे वे सामान्यतः ज्ञात तथ्यों से अलग प्रतीत होते हों, निश्चय कीजिए कि कौन-सा निष्कर्ष तार्किक रूप से कथनों के अनुसार है।
कथन:

कुछ if's, but's हैं।

सभी but's, so's हैं।

कोई so, then नहीं है।

निष्कर्ष:

I. सभी if's के then होने की संभावना है।

II. सभी then's के if होने की संभावना है।

Ans

1. दोनों निष्कर्ष I और II कथनों के अनुसार हैं।

2. केवल निष्कर्ष II कथनों के अनुसार है।

3. केवल निष्कर्ष I कथनों के अनुसार है।

4. न तो निष्कर्ष I और न ही II कथनों के अनुसार है।

Question Type : MCQ

Question ID : 264330140001

Option 1 ID : 264330548385

Option 2 ID : 264330548384

Option 3 ID : 264330548383

Option 4 ID : 264330548386

Status : Answered

Chosen Option : 2

Q.11 दो कथन दिए गए हैं और दो निष्कर्ष I और II दिए गए हैं। कथनों को सत्य मानते हुए, चाहे वे सामान्यतः ज्ञात तथ्यों से अलग प्रतीत होते हों, निश्चय कीजिए कि कौन-सा निष्कर्ष तार्किक रूप से कथनों के अनुसार है।
कथन:

सभी अँगूठी, गोल हैं।

कोई गोल, वर्गाकार नहीं है।

निष्कर्ष:

I. कोई अँगूठी, वर्गाकार नहीं है।

II. कोई वर्गाकार, गोल नहीं है।

Ans

1. दोनों निष्कर्ष I और II कथनों के अनुसार हैं।

2. केवल निष्कर्ष II कथनों के अनुसार है।

3. केवल निष्कर्ष I कथनों के अनुसार है।

4. न तो निष्कर्ष I और न ही II कथनों के अनुसार है।

Question Type : MCQ

Question ID : 264330140000

Option 1 ID : 264330548381

Option 2 ID : 264330548380

Option 3 ID : 264330548379

Option 4 ID : 264330548382

Status : Answered

Chosen Option : 1

Q.12 (::) के बाईं ओर दिए गए शब्द आपस में किसी तर्क/नियम/संबंध द्वारा संबंधित हैं। समान तर्क/नियम/संबंध के आधार पर दिए गए विकल्पों में से (::) के दाईं ओर लुप्त शब्द/शब्द युग्म को चुनिए।

कोहिमा : नगालैंड :: ?

- Ans
- 1. बिहार : पटना
 - 2. शिलांग : मेघालय
 - 3. उत्तरप्रदेश : लखनऊ
 - 4. सिक्किम: गंगटोक

Question Type : MCQ
Question ID : 264330139530
Option 1 ID : 264330546536
Option 2 ID : 264330546537
Option 3 ID : 264330546538
Option 4 ID : 264330546535
Status : Answered
Chosen Option : 2

Q.13 उस विकल्प को चुनिए जो पाँचवें पद से ठीक उसी प्रकार संबंधित है जिस प्रकार दूसरा पद पहले पद से संबंधित है और चौथा पद तीसरे पद से संबंधित है।

GT16 : KW32 :: MQ29 : QT45 :: VA16 : ?

- Ans
- 1. ZB32
 - 2. ZD32
 - 3. YD32
 - 4. YC32

Question Type : MCQ
Question ID : 264330138583
Option 1 ID : 264330542941
Option 2 ID : 264330542939
Option 3 ID : 264330542940
Option 4 ID : 264330542942
Status : Answered
Chosen Option : 2

Q.14 दिए गए पैटर्न का ध्यानपूर्वक अध्ययन करें और उस संख्या को चुनिए जो इसमें प्रश्न चिन्ह(?) के स्थान पर आ सकती है।

पहली पंक्ति- 15, 12, 180

दूसरी पंक्ति- 18,13, 234

तीसरी पंक्ति- 7, 32, ?

- Ans
- 1. 224
 - 2. 308
 - 3. 215
 - 4. 179

Question Type : MCQ
Question ID : 264330140087
Option 1 ID : 264330548727
Option 2 ID : 264330548729
Option 3 ID : 264330548728
Option 4 ID : 264330548730
Status : Answered
Chosen Option : 1

Q.15 एक निश्चित कूट भाषा में, 'RUDE' को 'EDUR48' लिखा जाता है। उस भाषा में 'SOUP' को कैसे लिखा जाएगा?

- Ans
- 1. PUOS81
 - 2. PUPS71
 - 3. PUOS71
 - 4. PUPS81

Question Type : MCQ
Question ID : 264330139995
Option 1 ID : 264330548360
Option 2 ID : 264330548361
Option 3 ID : 264330548359
Option 4 ID : 264330548362
Status : Answered
Chosen Option : 3

Q.16 उस विकल्प को चुनिए जो छठी संख्या से ठीक उसी प्रकार संबंधित है जिस प्रकार पहली संख्या दूसरी संख्या से संबंधित है और तीसरी संख्या चौथी संख्या से संबंधित है।

13 : 168 :: 16 : 255 :: ? : 143

- Ans
- 1. 15
 - 2. 12
 - 3. 11
 - 4. 14

Question Type : MCQ
Question ID : 264330139541
Option 1 ID : 264330546582
Option 2 ID : 264330546580
Option 3 ID : 264330546579
Option 4 ID : 264330546581
Status : Answered
Chosen Option : 2

Q.17 एक निश्चित कूट भाषा में, 'DUKE' को 'ZQGA' लिखा जाता है। उस कूट भाषा में 'EXIT' को कैसे लिखा जाएगा?

- Ans
- 1. ATEQ
 - 2. ATEP
 - 3. AUPE
 - 4. AUFQ

Question Type : MCQ
Question ID : 264330140056
Option 1 ID : 264330548606
Option 2 ID : 264330548605
Option 3 ID : 264330548603
Option 4 ID : 264330548604
Status : Answered
Chosen Option : 2

Q.18 दी गई श्रृंखला में निम्नलिखित में से कौन-सी संख्या प्रश्न चिन्ह (?) के स्थान पर आएगी?
14, 9, 4, -1, -6, ?

- Ans
- 1. -8
 - 2. -14
 - 3. -11
 - 4. -23

Question Type : MCQ

Question ID : 264330140423

Option 1 ID : 264330550074

Option 2 ID : 264330550071

Option 3 ID : 264330550073

Option 4 ID : 264330550072

Status : Answered

Chosen Option : 3

Q.19 यदि एक दर्पण को रेखा AB पर रखा जाए, तो दी गई विकल्प आकृतियों में से कौन-सी आकृति प्रश्न आकृति का सही प्रतिबिम्ब होगी?



Ans

- 1.
- 2.
- 3.
- 4.

Question Type : MCQ

Question ID : 264330139546

Option 1 ID : 264330546602

Option 2 ID : 264330546599

Option 3 ID : 264330546601

Option 4 ID : 264330546600

Status : Answered

Chosen Option : 4

Q.20 कौन-सी उत्तर आकृति प्रश्न आकृति में दिए गए पैटर्न को पूरा करेगी?



Ans

✓ 1.



✗ 2.



✗ 3.



✗ 4.



Question Type : MCQ

Question ID : 264330139567

Option 1 ID : 264330546684

Option 2 ID : 264330546686

Option 3 ID : 264330546683

Option 4 ID : 264330546685

Status : Answered

Chosen Option : 4

Section : General Awareness

Q.1 प्राचीन काल में 'कम्मकार (Kammakaras)' शब्द का संबंध _____ से था।

Ans

✗ 1. कर संग्रह अधिकारी

✓ 2. भूमिहीन खेतिहर मजदूरों

✗ 3. कारीगरों

✗ 4. सुनार

Question Type : MCQ

Question ID : 264330139694

Option 1 ID : 264330547191

Option 2 ID : 264330547192

Option 3 ID : 264330547193

Option 4 ID : 264330547194

Status : Answered

Chosen Option : 3

Q.2 जैवि विविधता (संशोधन) विधेयक (Biological Diversity (Amendment) Bill), 2021 भारत के _____ मंत्रालय से संबंधित है।

- Ans
- ✓ 1. पर्यावरण, वन और जलवायु परिवर्तन
 - ✗ 2. पृथ्वी विज्ञान
 - ✗ 3. कृषि और किसान कल्याण
 - ✗ 4. कॉर्पोरेट कार्य

Question Type : MCQ
Question ID : 264330140906
Option 1 ID : 264330551971
Option 2 ID : 264330551974
Option 3 ID : 264330551972
Option 4 ID : 264330551973
Status : Answered
Chosen Option : 1

Q.3 कॉमनवेल्थ गेम्स 2022 में भारत ने कितने रजत पदक जीते?

- Ans
- ✗ 1. 20
 - ✗ 2. 14
 - ✓ 3. 16
 - ✗ 4. 18

Question Type : MCQ
Question ID : 264330140270
Option 1 ID : 264330549462
Option 2 ID : 264330549459
Option 3 ID : 264330549460
Option 4 ID : 264330549461
Status : Answered
Chosen Option : 2

Q.4 किस प्रसिद्ध भारतीय संगीतकार का संबंध संतूर नामक वाद्य यंत्र से है?

- Ans
- ✓ 1. पंडित शिव कुमार शर्मा
 - ✗ 2. उस्ताद अमजद अली खान
 - ✗ 3. उस्ताद जाकिर हुसैन
 - ✗ 4. हरिप्रसाद चौरसिया

Question Type : MCQ
Question ID : 264330140744
Option 1 ID : 264330551324
Option 2 ID : 264330551326
Option 3 ID : 264330551325
Option 4 ID : 264330551323
Status : Answered
Chosen Option : 1

Q.5 रोग उत्पन्न करने वाले सूक्ष्मजीवों को _____ कहा जाता है।

- Ans
- ✓ 1. रोगजनक
 - ✗ 2. रोग-प्रतिकारक
 - ✗ 3. अपघटक
 - ✗ 4. विषाक्त पदार्थ

Question Type : MCQ
Question ID : 264330139687
Option 1 ID : 264330547165
Option 2 ID : 264330547166
Option 3 ID : 264330547164
Option 4 ID : 264330547163
Status : Answered
Chosen Option : 1

Q.6 निम्नलिखित में से किस प्रकार की बेरोजगारी को वास्तविक मजदूरी बेरोजगारी के रूप में भी जाना जाता है?

- Ans
- ✗ 1. मौसमी (Seasonal)
 - ✗ 2. प्रतिरोधात्मक (Frictional)
 - ✓ 3. चिरसम्मत (Classical)
 - ✗ 4. संरचनात्मक (Structural)

Question Type : MCQ
Question ID : 264330140354
Option 1 ID : 264330549798
Option 2 ID : 264330549796
Option 3 ID : 264330549797
Option 4 ID : 264330549795
Status : Answered
Chosen Option : 3

Q.7 भारतीय संविधान के किस भाग में नगर पालिकाओं से संबंधित प्रावधानों का उल्लेख है?

- Ans
- ✗ 1. भाग V
 - ✗ 2. भाग XII
 - ✗ 3. भाग VII
 - ✓ 4. भाग IXA

Question Type : MCQ
Question ID : 264330139759
Option 1 ID : 264330547451
Option 2 ID : 264330547454
Option 3 ID : 264330547452
Option 4 ID : 264330547453
Status : Answered
Chosen Option : 4

Q.8 निम्नलिखित में से कौन-सा पादप जगत द्विबीजपत्री और एकबीजपत्री में विभक्त होता है?

- Ans
- 1. जिम्नोस्पर्म (अनावृतबीजी)
 - 2. ब्रायोफाइट
 - 3. एंजियोस्पर्म (आवृतबीजी)
 - 4. टैरिडोफाइट

Question Type : MCQ

Question ID : 264330140348

Option 1 ID : 264330549773

Option 2 ID : 264330549771

Option 3 ID : 264330549774

Option 4 ID : 264330549772

Status : Answered

Chosen Option : 2

Q.9 संगीत नाटक अकादमी पुरस्कार से सम्मानित किस पूर्व मिस इंडिया ने पश्चिम में भारतीय शास्त्रीय नृत्य को लोकप्रिय बनाया?

- Ans
- 1. लोना पिंटो (Lona Pinto)
 - 2. इंद्राणी रहमान
 - 3. पीस कंवल (Peace Kanwal)
 - 4. लीला नायडू

Question Type : MCQ

Question ID : 264330140670

Option 1 ID : 264330551028

Option 2 ID : 264330551029

Option 3 ID : 264330551030

Option 4 ID : 264330551027

Status : Not Answered

Chosen Option : --

Q.10 निम्नलिखित में से किसने 2022 में पुरुष एकल का पेरिस मास्टर्स खिताब (Men's Singles Paris Masters Title) जीता?

- Ans
- 1. नोवाक जोकोविच (Novak Djokovic)
 - 2. कैस्पर रूड (Casper Ruud)
 - 3. होल्गर रूने (Holger Rune)
 - 4. कार्लोस अल्कारेज (Carlos Alcaraz)

Question Type : MCQ

Question ID : 264330141069

Option 1 ID : 264330552626

Option 2 ID : 264330552624

Option 3 ID : 264330552625

Option 4 ID : 264330552623

Status : Answered

Chosen Option : 1

Q.11 किस स्वतंत्रता सेनानी को भारतीय क्रांति की जननी (mother of the Indian revolution) के तौर पर जाना जाता है?

- Ans
- ✓ 1. मैडम भीकाजी कामा
 - ✗ 2. एनी बेसेंट (Annie Besant)
 - ✗ 3. सरोजिनी नायडू
 - ✗ 4. अरुणा आसफ अली

Question Type : MCQ

Question ID : 264330140667

Option 1 ID : 264330551017

Option 2 ID : 264330551016

Option 3 ID : 264330551015

Option 4 ID : 264330551018

Status : Answered

Chosen Option : 1

Q.12 विंध्य और सतपुड़ा पर्वतमालाओं के बीच कौन सी नदी बहती है?

- Ans
- ✗ 1. महानदी
 - ✗ 2. गोदावरी
 - ✓ 3. नर्मदा
 - ✗ 4. सोन

Question Type : MCQ

Question ID : 264330140686

Option 1 ID : 264330551094

Option 2 ID : 264330551092

Option 3 ID : 264330551093

Option 4 ID : 264330551091

Status : Answered

Chosen Option : 2

Q.13 भारतीय संविधान का निम्नलिखित में से कौन-सा भाग 'पंचायतों' से संबंधित है?

- Ans
- ✓ 1. IX
 - ✗ 2. VI
 - ✗ 3. X
 - ✗ 4. III

Question Type : MCQ

Question ID : 264330140363

Option 1 ID : 264330549831

Option 2 ID : 264330549832

Option 3 ID : 264330549833

Option 4 ID : 264330549834

Status : Answered

Chosen Option : 1

Q.14 दिल्ली सल्तनत के अधीन, भारत में धनवान मुसलमानों पर एक धार्मिक कर _____ लगाया गया था।

- Ans
- ✓ 1. ज़कात (Zakat)
 - ✗ 2. फिरूज़ (Firuz)
 - ✗ 3. किस्मत (Kismat)
 - ✗ 4. मामलुक (Mamluk)

Question Type : MCQ
Question ID : 264330140715
Option 1 ID : 264330551209
Option 2 ID : 264330551208
Option 3 ID : 264330551207
Option 4 ID : 264330551210
Status : Answered
Chosen Option : 1

Q.15 वित्त वर्ष (FY) 2020-21 के लिए कौन-सा देश दुनिया में कच्चे इस्पात (crude steel) का दूसरा सबसे बड़ा उत्पादक है?

- Ans
- ✓ 1. भारत
 - ✗ 2. ऑस्ट्रेलिया
 - ✗ 3. जापान
 - ✗ 4. चीन

Question Type : MCQ
Question ID : 264330140660
Option 1 ID : 264330550988
Option 2 ID : 264330550989
Option 3 ID : 264330550987
Option 4 ID : 264330550990
Status : Answered
Chosen Option : 1

Q.16 भारतीय लघु उद्योग विकास बैंक (Small Industries Development Bank of India (SIDBI)) को _____ द्वारा विनियमित किया जाता है।

- Ans
- ✗ 1. इंडियन बैंक
 - ✓ 2. भारतीय रिजर्व बैंक
 - ✗ 3. आईसीआईसीआई बैंक (ICICI Bank)
 - ✗ 4. भारतीय स्टेट बैंक

Question Type : MCQ
Question ID : 264330140750
Option 1 ID : 264330551348
Option 2 ID : 264330551350
Option 3 ID : 264330551347
Option 4 ID : 264330551349
Status : Not Answered
Chosen Option : --

Q.17 विरूपाक्ष मंदिर _____ में स्थित है।

- Ans
- ✓ 1. हम्पी
 - ✗ 2. सूरत
 - ✗ 3. सांची
 - ✗ 4. जयपुर

Question Type : MCQ
Question ID : 264330139725
Option 1 ID : 264330547316
Option 2 ID : 264330547317
Option 3 ID : 264330547315
Option 4 ID : 264330547318
Status : Not Answered
Chosen Option : --

Q.18 भारतीय संविधान का अनुच्छेद 40, "ग्राम पंचायतों का संगठन (Organisation of village panchayats)", एक _____ है।

- Ans
- ✗ 1. मौलिक अधिकार
 - ✗ 2. मौलिक कर्तव्य
 - ✓ 3. राज्य का नीति-निर्देशक तत्त्व
 - ✗ 4. कानूनी अधिकार

Question Type : MCQ
Question ID : 264330140671
Option 1 ID : 264330551032
Option 2 ID : 264330551031
Option 3 ID : 264330551034
Option 4 ID : 264330551033
Status : Answered
Chosen Option : 4

Q.19 किसी स्थान पर तापमान, आर्द्रता, वर्षा, वायु वेग आदि के संदर्भ में वायुमंडल की प्रतिदिन की परिस्थिति उस स्थान का/की _____ कहलाती है।

- Ans
- ✓ 1. मौसम
 - ✗ 2. पर्यावरण
 - ✗ 3. परिस्थितिकी
 - ✗ 4. जलवायु

Question Type : MCQ
Question ID : 264330139663
Option 1 ID : 264330547069
Option 2 ID : 264330547068
Option 3 ID : 264330547070
Option 4 ID : 264330547067
Status : Answered
Chosen Option : 4

Q.20 नालंदा विश्वविद्यालय, प्राचीन काल का एक महत्वपूर्ण शिक्षा केंद्र किस राज्य में स्थित है?

- Ans
- 1. पश्चिम बंगाल
 - 2. बिहार
 - 3. हरियाणा
 - 4. उत्तरप्रदेश

Question Type : MCQ

Question ID : 264330140883

Option 1 ID : 264330551882

Option 2 ID : 264330551881

Option 3 ID : 264330551880

Option 4 ID : 264330551879

Status : Answered

Chosen Option : 2

Q.21 घर्षण कम करने वाले पदार्थों को _____ कहते हैं।

- Ans
- 1. तरल
 - 2. कमानी
 - 3. स्नेहक
 - 4. चुंबक

Question Type : MCQ

Question ID : 264330140283

Option 1 ID : 264330549512

Option 2 ID : 264330549514

Option 3 ID : 264330549511

Option 4 ID : 264330549513

Status : Answered

Chosen Option : 3

Q.22 निम्नलिखित में से कौन-से भारत के महत्वपूर्ण इस्पात उत्पादक केंद्र हैं?

- I. भिलाई
- II. जमशेदपुर
- III. राउरकेला

- Ans
- 1. केवल I और II
 - 2. केवल I और III
 - 3. I, II और III
 - 4. केवल II और III

Question Type : MCQ

Question ID : 264330140898

Option 1 ID : 264330551940

Option 2 ID : 264330551939

Option 3 ID : 264330551942

Option 4 ID : 264330551941

Status : Answered

Chosen Option : 3

Q.23 निम्नलिखित में से कौन-सा राज्य नेपाल के साथ सीमा साझा नहीं करता है?

- Ans
- 1. बिहार
 - 2. हिमाचल प्रदेश
 - 3. उत्तरप्रदेश
 - 4. उत्तराखंड

Question Type : MCQ

Question ID : 264330140286

Option 1 ID : 264330549524

Option 2 ID : 264330549526

Option 3 ID : 264330549523

Option 4 ID : 264330549525

Status : Answered

Chosen Option : 1

Q.24 1927 में बी. आर. अंबेडकर ने दलितों के साथ किस आंदोलन की शुरुआत की थी?

- Ans
- 1. स्वतंत्रता आंदोलन
 - 2. मंदिर प्रवेश आंदोलन
 - 3. स्वाभिमान आंदोलन
 - 4. समान वेतन आंदोलन

Question Type : MCQ

Question ID : 264330139889

Option 1 ID : 264330547935

Option 2 ID : 264330547936

Option 3 ID : 264330547938

Option 4 ID : 264330547937

Status : Answered

Chosen Option : 2

Q.25 आदि जनजाति द्वारा मनाए जाने वाले "सोलुंग (Solung)" त्योहार का संबंध किस राज्य से है?

- Ans
- 1. मध्यप्रदेश
 - 2. अरुणाचल प्रदेश
 - 3. हिमाचल प्रदेश
 - 4. आंध्रप्रदेश

Question Type : MCQ

Question ID : 264330139699

Option 1 ID : 264330547213

Option 2 ID : 264330547212

Option 3 ID : 264330547214

Option 4 ID : 264330547211

Status : Answered

Chosen Option : 2

Q.1 Improve the underlined part of the sentence. Choose 'No improvement' as an answer if the sentence is grammatically correct.

He would prefer to speak with you in persona.

- Ans**
- 1. you in person
 - 2. you in personal
 - 3. you on person
 - 4. No improvement

Question Type : **MCQ**
Question ID : **264330135234**
Option 1 ID : **264330529859**
Option 2 ID : **264330529860**
Option 3 ID : **264330529861**
Option 4 ID : **264330529862**
Status : **Answered**
Chosen Option : **2**

Q.2 Select the most appropriate option to fill in the blank.

She was trying to help that little boy in the grocery _____.

- Ans**
- 1. store
 - 2. asylum
 - 3. park
 - 4. road

Question Type : **MCQ**
Question ID : **264330135661**
Option 1 ID : **264330531541**
Option 2 ID : **264330531542**
Option 3 ID : **264330531540**
Option 4 ID : **264330531539**
Status : **Answered**
Chosen Option : **2**

Q.3 Fill in the blank with the most appropriate option.

Many Americans appear to be _____ those warnings seriously.

- Ans**
- 1. taking
 - 2. making
 - 3. sacking
 - 4. understanding

Question Type : **MCQ**
Question ID : **264330136168**
Option 1 ID : **264330533471**
Option 2 ID : **264330533472**
Option 3 ID : **264330533474**
Option 4 ID : **264330533473**
Status : **Not Answered**
Chosen Option : **--**

Q.4 Identify the segment that contains a grammatical error. If there is no error, select 'No error'.

The differences were/ imperceptible to all but/ the most trained eye.

- Ans**
- 1. No error
 - 2. imperceptible to all but
 - 3. the most trained eye.
 - 4. The differences were

Question Type : **MCQ**
Question ID : **264330136345**
Option 1 ID : **264330534154**
Option 2 ID : **264330534152**
Option 3 ID : **264330534153**
Option 4 ID : **264330534151**
Status : **Answered**
Chosen Option : **3**

Q.5 Select the wrongly spelt word.

- Ans**
- 1. enormous
 - 2. courteous
 - 3. indolent
 - 4. mordern

Question Type : **MCQ**
Question ID : **264330136766**
Option 1 ID : **264330535767**
Option 2 ID : **264330535770**
Option 3 ID : **264330535769**
Option 4 ID : **264330535768**
Status : **Answered**
Chosen Option : **4**

Q.6 Select the appropriate antonym for the underlined word.

Educators play a key role as nation builders.

- Ans**
- 1. negligible
 - 2. predominant
 - 3. primitive
 - 4. principal

Question Type : **MCQ**
Question ID : **264330135249**
Option 1 ID : **264330529915**
Option 2 ID : **264330529917**
Option 3 ID : **264330529918**
Option 4 ID : **264330529916**
Status : **Answered**
Chosen Option : **1**

Q.7 Select the word from the options which is similar in meaning to the bracketed word given in the sentence below.

The (departure) of people from the city isn't necessarily good news.

- Ans**
- 1. continuation
 - 2. exodus
 - 3. abidance
 - 4. excavation

Question Type : **MCQ**
Question ID : **264330136282**
Option 1 ID : **264330533909**
Option 2 ID : **264330533907**
Option 3 ID : **264330533910**
Option 4 ID : **264330533908**
Status : **Answered**
Chosen Option : **2**

Q.8 Fill in the blank with the most appropriate option.

Pranav, Shagun and Munshi took a bus to the same _____.

- Ans**
- 1. end
 - 2. slot
 - 3. target
 - 4. destination

Question Type : **MCQ**
Question ID : **264330135766**
Option 1 ID : **264330531946**
Option 2 ID : **264330531943**
Option 3 ID : **264330531944**
Option 4 ID : **264330531945**
Status : **Answered**
Chosen Option : **4**

Q.9 Select the most appropriate meaning of the bracketed idiom in the given sentence.

She invited (all and sundry) to her party.

- Ans**
- 1. To suffer humiliation
 - 2. Everyone without distinction
 - 3. To remove a misapprehension
 - 4. To take reckless risks

Question Type : **MCQ**
Question ID : **264330136208**
Option 1 ID : **264330533623**
Option 2 ID : **264330533626**
Option 3 ID : **264330533625**
Option 4 ID : **264330533624**
Status : **Answered**
Chosen Option : **2**

Q.10 Identify the segment that contains a grammatical error. If there is no error, select 'No error'.

Even the most wise don't / know what's hidden in / the depths of their being.

- Ans**
- 1. know what's hidden in
 - 2. No error
 - 3. the depths of their being.
 - 4. Even the most wise don't

Question Type : **MCQ**
Question ID : **264330136411**
Option 1 ID : **264330534408**
Option 2 ID : **264330534410**
Option 3 ID : **264330534409**
Option 4 ID : **264330534407**
Status : **Answered**
Chosen Option : **1**

Q.11 Select the most appropriate option to fill in the blank.

The event acts as a trigger or _____, which catapults them into an awareness of this phenomena.

- Ans**
- 1. dogma
 - 2. elegy
 - 3. catalyst
 - 4. harangue

Question Type : **MCQ**
Question ID : **264330136350**
Option 1 ID : **264330534172**
Option 2 ID : **264330534174**
Option 3 ID : **264330534173**
Option 4 ID : **264330534171**
Status : **Answered**
Chosen Option : **3**

Q.12 Identify the segment that contains a grammatical error. If there is no error, select 'No error'.

'He wants something done, / and it has not happen / fast enough,' he said.

- Ans**
- 1. He wants something done
 - 2. and it has not happen
 - 3. fast enough,' he said.
 - 4. No error

Question Type : **MCQ**
Question ID : **264330136412**
Option 1 ID : **264330534411**
Option 2 ID : **264330534412**
Option 3 ID : **264330534413**
Option 4 ID : **264330534414**
Status : **Answered**
Chosen Option : **4**

Q.13 Select the most appropriate synonym of the given word.

Small

- Ans
- 1. Rich
 - 2. Liberal
 - 3. Slight
 - 4. Adequate

Question Type : MCQ
Question ID : 264330136125
Option 1 ID : 264330533306
Option 2 ID : 264330533305
Option 3 ID : 264330533303
Option 4 ID : 264330533304
Status : Answered
Chosen Option : 3

Q.14 Select the most appropriate meaning of the given idiom.

Rust bucket

- Ans
- 1. To be absent minded
 - 2. An old man
 - 3. A vehicle that is old or almost broken
 - 4. To be late for everything

Question Type : MCQ
Question ID : 264330135865
Option 1 ID : 264330532323
Option 2 ID : 264330532325
Option 3 ID : 264330532324
Option 4 ID : 264330532326
Status : Answered
Chosen Option : 2

Q.15 Select the most appropriate option to substitute the bracketed segment in the given sentence. If there is no need to substitute it, select 'no substitution required'.

It is expected that this police power will only apply to air and (sea routes between the Great Britain and the Northern Ireland).

- Ans
- 1. No substitution required
 - 2. sea routes between Great Britain and Northern Ireland
 - 3. sea routes across the Great Britain and Northern Ireland
 - 4. sea routes across the Great Britain and the Northern Ireland

Question Type : MCQ
Question ID : 264330136348
Option 1 ID : 264330534166
Option 2 ID : 264330534165
Option 3 ID : 264330534163
Option 4 ID : 264330534164
Status : Answered
Chosen Option : 4

Q.16 Select the correctly spelt word.

- Ans
- 1. simultenaous
 - 2. simulteneous
 - 3. simultaneous
 - 4. simultanous

Question Type : **MCQ**
Question ID : **264330135685**
Option 1 ID : **264330531634**
Option 2 ID : **264330531631**
Option 3 ID : **264330531632**
Option 4 ID : **264330531633**
Status : **Answered**
Chosen Option : **2**

Q.17 Choose the word that is opposite in meaning to the given word.

Pardon

- Ans
- 1. Release
 - 2. Spite
 - 3. Condemn
 - 4. Boast

Question Type : **MCQ**
Question ID : **264330135248**
Option 1 ID : **264330529912**
Option 2 ID : **264330529913**
Option 3 ID : **264330529911**
Option 4 ID : **264330529914**
Status : **Answered**
Chosen Option : **3**

Q.18 Select the most appropriate word for the given group of words.

People who belong to the same country.

- Ans
- 1. Soldiers
 - 2. Communists
 - 3. Natives
 - 4. Folks

Question Type : **MCQ**
Question ID : **264330135703**
Option 1 ID : **264330531700**
Option 2 ID : **264330531702**
Option 3 ID : **264330531699**
Option 4 ID : **264330531701**
Status : **Answered**
Chosen Option : **2**

Q.19 Choose the word that can substitute the given group of words.

One who gives shape to stone

- Ans**
- 1. Auditor
 - 2. Sculptor
 - 3. Apostate
 - 4. Curator

Question Type : **MCQ**

Question ID : **264330135524**

Option 1 ID : **264330531000**

Option 2 ID : **264330531002**

Option 3 ID : **264330530999**

Option 4 ID : **264330531001**

Status : **Answered**

Chosen Option : **4**

Q.20 Select the word segment that substitutes (replaces) the bracketed word segment correctly and completes the sentence meaningfully. Select the option 'no correction required' if the sentence is correct as given.
We've made extraordinary (flowering as a) society in that regard.

- Ans**
- 1. advance as a
 - 2. improvement by a
 - 3. No correction required
 - 4. progress as a

Question Type : **MCQ**

Question ID : **264330135720**

Option 1 ID : **264330531769**

Option 2 ID : **264330531767**

Option 3 ID : **264330531770**

Option 4 ID : **264330531768**

Status : **Answered**

Chosen Option : **4**

Comprehension:

In the following passage some of the words have been deleted. Read the passage carefully and select the correct answer for the given blank out of the four alternatives.

One headteacher asked what she should say to parents who request guidance _____ (1) getting their child "school-ready", because she was concerned that too _____ (2) parents have become convinced that an expert (the teacher) knows more than they do about their own child's _____ (3). Her intention was not to bash parents, _____ (4) she wanted to know how to encourage parents to see "school" as a distinct domain from "home", where their own _____ (5) ought to hold sway.

SubQuestion No : 21

Q.21 Select the most appropriate option to fill in the blank 1

- Ans**
- 1. of
 - 2. at
 - 3. on
 - 4. to

Question Type : **MCQ**
Question ID : **264330141191**
Option 1 ID : **264330553100**
Option 2 ID : **264330553101**
Option 3 ID : **264330553099**
Option 4 ID : **264330553102**
Status : **Answered**
Chosen Option : **4**

Comprehension:

In the following passage some of the words have been deleted. Read the passage carefully and select the correct answer for the given blank out of the four alternatives.

One headteacher asked what she should say to parents who request guidance _____ (1) getting their child "school-ready", because she was concerned that too _____ (2) parents have become convinced that an expert (the teacher) knows more than they do about their own child's _____ (3). Her intention was not to bash parents, _____ (4) she wanted to know how to encourage parents to see "school" as a distinct domain from "home", where their own _____ (5) ought to hold sway.

SubQuestion No : 22

Q.22 Select the most appropriate option to fill in the blank 2

- Ans**
- 1. many
 - 2. more
 - 3. most
 - 4. much

Question Type : **MCQ**
Question ID : **264330141192**
Option 1 ID : **264330553104**
Option 2 ID : **264330553103**
Option 3 ID : **264330553106**
Option 4 ID : **264330553105**
Status : **Answered**
Chosen Option : **1**

Comprehension:

In the following passage some of the words have been deleted. Read the passage carefully and select the correct answer for the given blank out of the four alternatives.

One headteacher asked what she should say to parents who request guidance _____ (1) getting their child "school-ready", because she was concerned that too _____ (2) parents have become convinced that an expert (the teacher) knows more than they do about their own child's _____ (3). Her intention was not to bash parents, _____ (4) she wanted to know how to encourage parents to see "school" as a distinct domain from "home", where their own _____ (5) ought to hold sway.

SubQuestion No : 23

Q.23 Select the most appropriate option to fill in the blank 3

- Ans**
- 1. submission
 - 2. development
 - 3. maniacs
 - 4. consistence

Question Type : **MCQ**
Question ID : **264330141193**
Option 1 ID : **264330553110**
Option 2 ID : **264330553109**
Option 3 ID : **264330553107**
Option 4 ID : **264330553108**
Status : **Answered**
Chosen Option : **2**

Comprehension:

In the following passage some of the words have been deleted. Read the passage carefully and select the correct answer for the given blank out of the four alternatives.

One headteacher asked what she should say to parents who request guidance _____ (1) getting their child "school-ready", because she was concerned that too _____ (2) parents have become convinced that an expert (the teacher) knows more than they do about their own child's _____ (3). Her intention was not to bash parents, _____ (4) she wanted to know how to encourage parents to see "school" as a distinct domain from "home", where their own _____ (5) ought to hold sway.

SubQuestion No : 24

Q.24 Select the most appropriate option to fill in the blank 4

- Ans**
- 1. so
 - 2. yet
 - 3. or
 - 4. rather

Question Type : **MCQ**
Question ID : **264330141194**
Option 1 ID : **264330553113**
Option 2 ID : **264330553112**
Option 3 ID : **264330553111**
Option 4 ID : **264330553114**
Status : **Answered**
Chosen Option : **1**

Comprehension:

In the following passage some of the words have been deleted. Read the passage carefully and select the correct answer for the given blank out of the four alternatives.

One headteacher asked what she should say to parents who request guidance _____ (1) getting their child "school-ready", because she was concerned that too _____ (2) parents have become convinced that an expert (the teacher) knows more than they do about their own child's _____ (3). Her intention was not to bash parents, _____ (4) she wanted to know how to encourage parents to see "school" as a distinct domain from "home", where their own _____ (5) ought to hold sway.

SubQuestion No : 25

Q.25 Select the most appropriate option to fill in the blank 5

- Ans**
- 1. games
 - 2. commotion
 - 3. turbulence
 - 4. judgement

Question Type : **MCQ**

Question ID : **264330141195**

Option 1 ID : **264330553117**

Option 2 ID : **264330553115**

Option 3 ID : **264330553118**

Option 4 ID : **264330553116**

Status : **Answered**

Chosen Option : **1**

Multi Tasking Non Technical Staff and Havaladar CBIC and CBN Examination 2022

Roll Number	KD Job Updates
Candidate Name	KD Job Updates
Venue Name	iON Digital Zone iDZ 2 Sector 62
Exam Date	19/06/2023
Exam Time	9:00 AM - 10:30 AM
Subject	MTS Non Tech Havaladar CBIC and CBN Examination 2022

Section : Numerical and Mathematical Ability

Q.1 $\frac{1}{7} \times \frac{1}{8} + \frac{72}{51}$ of $\left(\frac{1}{9} + \frac{1}{8}\right) + \left(\frac{63}{56} \times \frac{48}{72}\right)$ का मान क्या है?

- Ans 1. 45/56
 2. 19/56
 3. 15/56
 4. 21/56

Question Type : MCQ

Question ID : 264330139928

Option 1 ID : 264330548094

Option 2 ID : 264330548091

Option 3 ID : 264330548093

Option 4 ID : 264330548092

Status : Answered

Chosen Option : 1

Q.2 दो नाव एक दूसरे की ओर क्रमशः 36 km/hr और 54 km/hr की चाल से यात्रा कर रही हैं। टकराने से एक सेकंड पहले दोनों नावों के बीच की दूरी कितनी होगी?

- Ans 1. 40 मीटर
 2. 15 मीटर
 3. 25 मीटर
 4. 35 मीटर

Question Type : MCQ

Question ID : 264330140535

Option 1 ID : 264330550498

Option 2 ID : 264330550496

Option 3 ID : 264330550495

Option 4 ID : 264330550497

Status : Answered

Chosen Option : 1

Q.3 एक व्यापारी Rs. 4000 प्रति वस्तु के मूल्य से दो वस्तु खरीदता है। यदि वह एक वस्तु पर 10 प्रतिशत का लाभ अर्जित करता है और दूसरी पर 30 प्रतिशत की हानि उठाता है, तो उसका कुल हानि प्रतिशत कितना होगा?

- Ans
- 1. 20 प्रतिशत
 - 2. 10 प्रतिशत
 - 3. 5 प्रतिशत
 - 4. 15 प्रतिशत

Question Type : MCQ
Question ID : 264330139023
Option 1 ID : 264330544699
Option 2 ID : 264330544700
Option 3 ID : 264330544702
Option 4 ID : 264330544701
Status : Answered
Chosen Option : 2

Q.4 45 cm लंबाई और 32 cm चौड़ाई वाले एक आयताकार मैदान का क्षेत्रफल क्या होगा?

- Ans
- 1. 1340 cm²
 - 2. 1120 cm²
 - 3. 1450 cm²
 - 4. 1440 cm²

Question Type : MCQ
Question ID : 264330140794
Option 1 ID : 264330551525
Option 2 ID : 264330551523
Option 3 ID : 264330551526
Option 4 ID : 264330551524
Status : Answered
Chosen Option : 4

Q.5 40 पुरुष एक इमारत को 100 दिनों में बना सकते हैं। इस कार्य को करने में 80 पुरुषों को कितना समय लगेगा?

- Ans
- 1. 80 दिन
 - 2. 60 दिन
 - 3. 40 दिन
 - 4. 50 दिन

Question Type : MCQ
Question ID : 264330140836
Option 1 ID : 264330551693
Option 2 ID : 264330551694
Option 3 ID : 264330551692
Option 4 ID : 264330551691
Status : Answered
Chosen Option : 4

Q.6 नीचे दी गई तालिका में 6 वस्तुओं का अंकित मूल्य और विक्रय मूल्य दर्शाया गया है।

वस्तुएँ	अंकित मूल्य	विक्रय मूल्य
A	750	650
B	600	450
C	650	500
D	450	400
E	850	650
F	350	300

बढ़ा प्रतिशत = $[(\text{अंकित मूल्य} - \text{विक्रय मूल्य})/\text{अंकित मूल्य}] \times 100$

निम्नलिखित में से कौन-सा बढ़ा प्रतिशत का सही अनुक्रम है?

- Ans
- 1. $D > A > F > C > E > B$
 - 2. $B > E > C > F > D > A$
 - 3. $B > E > C > F > A > D$
 - 4. $E > C > B > F > A > D$

Question Type : MCQ

Question ID : 264330140191

Option 1 ID : 264330549146

Option 2 ID : 264330549143

Option 3 ID : 264330549145

Option 4 ID : 264330549144

Status : Answered

Chosen Option : 1

Q.7 तीन साझेदार P, Q और R इस प्रकार लाभ साझा करते हैं कि P के हिस्से का 4 गुना, Q के हिस्से के 5 गुना और R के हिस्से के 8 गुना के बराबर है। P, Q और R के लाभ का क्रमशः अनुपात क्या है?

- Ans
- 1. $10 : 8 : 5$
 - 2. $15 : 9 : 8$
 - 3. $14 : 7 : 9$
 - 4. $12 : 8 : 7$

Question Type : MCQ

Question ID : 264330139617

Option 1 ID : 264330546883

Option 2 ID : 264330546886

Option 3 ID : 264330546885

Option 4 ID : 264330546884

Status : Answered

Chosen Option : 1

Q.8 यदि $(P/2) = (Q/5) = (R/6)$, तो $P^2 : (P + Q)^2 : (Q + R)^2$ का मान क्या है?

- Ans
- ✓ 1. 4 : 49 : 121
 - ✗ 2. 10 : 56 : 169
 - ✗ 3. 9 : 64 : 144
 - ✗ 4. 16 : 10 : 125

Question Type : MCQ

Question ID : 264330140247

Option 1 ID : 264330549367

Option 2 ID : 264330549369

Option 3 ID : 264330549368

Option 4 ID : 264330549370

Status : Answered

Chosen Option : 1

Q.9 प्राप्तांकों के समुच्चय 512, 528, 556, 584 और 615 का औसत है:

- Ans
- ✗ 1. 530
 - ✓ 2. 559
 - ✗ 3. 586
 - ✗ 4. 600

Question Type : MCQ

Question ID : 264330139039

Option 1 ID : 264330544763

Option 2 ID : 264330544764

Option 3 ID : 264330544765

Option 4 ID : 264330544766

Status : Answered

Chosen Option : 2

Q.10 $\frac{43 \times 2 - 21 \text{ of } 4}{28 - 7 \text{ of } 5 + 9}$ का मान क्या है?

- Ans
- ✗ 1. 2
 - ✗ 2. 3
 - ✓ 3. 1
 - ✗ 4. 4

Question Type : MCQ

Question ID : 264330139967

Option 1 ID : 264330548248

Option 2 ID : 264330548249

Option 3 ID : 264330548247

Option 4 ID : 264330548250

Status : Answered

Chosen Option : 3

Q.11 तीन भिन्न-भिन्न संख्याओं का लघुत्तम समापवर्त्य 40 है। निम्नलिखित में से कौन-सा उनका महत्तम समापवर्तक नहीं हो सकता है?

- Ans 1. 25
 2. 20
 3. 10
 4. 5

Question Type : MCQ

Question ID : 264330140254

Option 1 ID : 264330549396

Option 2 ID : 264330549397

Option 3 ID : 264330549398

Option 4 ID : 264330549395

Status : Answered

Chosen Option : 1

Q.12 S1 और S2 द्वारा प्राप्त अंकों का औसत S2 और S3 द्वारा प्राप्त औसत अंकों से 30 अधिक है। यदि S3 द्वारा प्राप्त अंक 50 है, तो S1 द्वारा प्राप्त अंक कितने हैं?

- Ans 1. 95
 2. 80
 3. 105
 4. 110

Question Type : MCQ

Question ID : 264330140635

Option 1 ID : 264330550888

Option 2 ID : 264330550887

Option 3 ID : 264330550890

Option 4 ID : 264330550889

Status : Answered

Chosen Option : 4

Q.13 A, B का 5 गुना है। B, A से कितने प्रतिशत कम है?

- Ans 1. 80 प्रतिशत
 2. 60 प्रतिशत
 3. 52.5 प्रतिशत
 4. 83.33 प्रतिशत

Question Type : MCQ

Question ID : 264330140636

Option 1 ID : 264330550892

Option 2 ID : 264330550891

Option 3 ID : 264330550893

Option 4 ID : 264330550894

Status : Answered

Chosen Option : 1

Q.14 साधारण ब्याज पर एक निश्चित धनराशि 8 वर्षों में स्वयं की तीन गुनी हो जाती है। कितने वर्षों में यह धनराशि स्वयं की पाँच गुनी हो जाएगी?

- Ans
- ✓ 1. 16 वर्ष
 - ✗ 2. 12 वर्ष
 - ✗ 3. 7 वर्ष
 - ✗ 4. 10 वर्ष

Question Type : MCQ

Question ID : 264330140163

Option 1 ID : 264330549034

Option 2 ID : 264330549033

Option 3 ID : 264330549031

Option 4 ID : 264330549032

Status : Answered

Chosen Option : 1

Q.15 एक वस्तु को 20 प्रतिशत और 20 प्रतिशत के दो क्रमागत बट्टों पर बेचा जाता है। दूसरे बट्टे के बाद वस्तु का विक्रय मूल्य Rs. 3616 है। यदि इसे 20 प्रतिशत के केवल एक बट्टे पर बेचा जाए, तो वस्तु का विक्रय मूल्य क्या होगा?

- Ans
- ✗ 1. Rs. 5200
 - ✓ 2. Rs. 4520
 - ✗ 3. Rs. 3960
 - ✗ 4. Rs. 4080

Question Type : MCQ

Question ID : 264330140545

Option 1 ID : 264330550535

Option 2 ID : 264330550537

Option 3 ID : 264330550538

Option 4 ID : 264330550536

Status : Answered

Chosen Option : 2

Q.16 एक वस्तु का क्रय मूल्य Rs. 2650 है। यदि हानि प्रतिशत 16 प्रतिशत है, तो वस्तु का विक्रय मूल्य क्या है?

- Ans
- ✗ 1. Rs. 2048
 - ✗ 2. Rs. 2316
 - ✗ 3. Rs. 2448
 - ✓ 4. Rs. 2226

Question Type : MCQ

Question ID : 264330139937

Option 1 ID : 264330548130

Option 2 ID : 264330548129

Option 3 ID : 264330548127

Option 4 ID : 264330548128

Status : Answered

Chosen Option : 4

Q.17 एक घनाभ की लंबाई, चौड़ाई और ऊँचाई क्रमशः 4 cm, 6 cm और 10 cm है। कुल पृष्ठीय क्षेत्रफल ज्ञात कीजिए।

- Ans
- ✓ 1. 248 cm^2
 - ✗ 2. 222 cm^2
 - ✗ 3. 244 cm^2
 - ✗ 4. 144 cm^2

Question Type : MCQ

Question ID : 264330138432

Option 1 ID : 264330542336

Option 2 ID : 264330542338

Option 3 ID : 264330542337

Option 4 ID : 264330542335

Status : Answered

Chosen Option : 1

Q.18 श्रेयस एक कार्य का 4/5 भाग 16 दिनों में पूरा कर सकता है। रुचि, श्रेयस से 2.5 गुना अधिक कार्यकुशल है। रुचि अकेले उसी कार्य को कितने दिनों में पूरा करेगी?

- Ans
- ✓ 1. 8 दिन
 - ✗ 2. 9 दिन
 - ✗ 3. 10 दिन
 - ✗ 4. 12.5 दिन

Question Type : MCQ

Question ID : 264330139589

Option 1 ID : 264330546773

Option 2 ID : 264330546772

Option 3 ID : 264330546774

Option 4 ID : 264330546771

Status : Answered

Chosen Option : 4

Q.19 A = Rs. 6000 का 5 वर्षों के लिए 15 प्रतिशत वार्षिक ब्याज दर पर साधारण ब्याज पर निवेश किया जाता है।

B = Rs. 5000 का 2 वर्षों के लिए 20 प्रतिशत वार्षिक ब्याज दर पर साधारण ब्याज पर निवेश किया जाता है।

A और B में क्रमशः अर्जित ब्याज का अनुपात क्या है?

- Ans
- ✗ 1. 16 : 5
 - ✓ 2. 9 : 4
 - ✗ 3. 19 : 12
 - ✗ 4. 18 : 11

Question Type : MCQ

Question ID : 264330139619

Option 1 ID : 264330546891

Option 2 ID : 264330546892

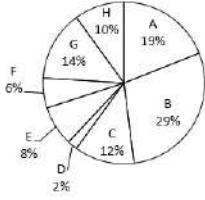
Option 3 ID : 264330546893

Option 4 ID : 264330546894

Status : Answered

Chosen Option : 2

Q.20 नीचे दिए गए वृत्त आलेख में 8 विद्यालयों में लड़कों की संख्या को दर्शाया गया है। इन सभी 8 विद्यालयों में लड़कों की कुल संख्या 10000 है। इनमें से किसी एक विशिष्ट विद्यालय में लड़कों की संख्या को इन सभी 8 विद्यालयों में लड़कों की कुल संख्या के प्रतिशत के रूप में दर्शाया गया है।



त्रिज्यखंड C, D और F द्वारा मिलकर बनाए गए केंद्रीय कोण और त्रिज्यखंड A, G और H द्वारा मिलकर बनाए गए केंद्रीय कोण का अनुपात क्या है?

- Ans**
- 1. 17 : 39
 - 2. 19 : 44
 - 3. 20 : 43
 - 4. 44 : 21

Question Type : MCQ

Question ID : 264330140172

Option 1 ID : 264330549068

Option 2 ID : 264330549067

Option 3 ID : 264330549070

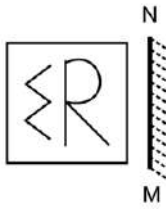
Option 4 ID : 264330549069

Status : Answered

Chosen Option : 3

Section : Reasoning Ability and Problem Solving

Q.1 दी गई आकृति के उस सही दर्पण प्रतिबिंब को चुनिए, जो दर्पण MN को आकृति के दाईं ओर रखने पर बनेगा।

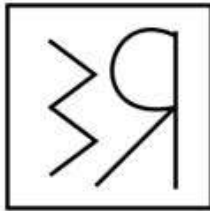


Ans

✗ 1.



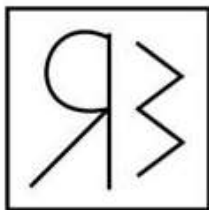
✗ 2.



✗ 3.



✓ 4.



Question Type : MCQ

Question ID : 264330138785

Option 1 ID : 264330543749

Option 2 ID : 264330543750

Option 3 ID : 264330543747

Option 4 ID : 264330543748

Status : Answered

Chosen Option : 4

Q.2 दी गई दो संख्याओं को आपस में बदलने पर, निम्नलिखित में से कौन-सा समीकरण सही होगा?

8 और 4

Ans 1. $4 \div 2 + 8 \times 3 = 16$

2. $4 + 3 \times 8 - 2 = 21$

3. $4 + 8 \times 2 - 3 = 20$

4. $8 - 4 + 6 = 9$

Question Type : MCQ

Question ID : 264330139564

Option 1 ID : 264330546673

Option 2 ID : 264330546671

Option 3 ID : 264330546674

Option 4 ID : 264330546672

Status : Answered

Chosen Option : 1

Q.3 उस विकल्प को चुनिए जिसमें समुच्चय की संख्याएँ वही संबंध साझा करती हैं जो दिए गए समुच्चय में संख्याओं द्वारा साझा किया जाता है। (ध्यान दें: संख्याओं को उनके घटक अंकों में अलग-अलग किए बिना, पूर्ण संख्याओं पर संक्रियाएँ की जानी चाहिए। उदा. 13 - 13 पर संक्रियाएँ जैसे 13 को जोड़ना /घटाना /गुणा करना आदि किया जा सकता है। 13 को 1 और 3 में अलग-अलग करने और फिर 1 और 3 पर गणितीय संक्रियाएँ करने की अनुमति नहीं है)

(2, 3, 5)

(5, 7, 11)

Ans 1. (5, 10, 11)

2. (12, 15, 18)

3. (11, 13, 17)

4. (4, 6, 7)

Question Type : MCQ

Question ID : 264330139985

Option 1 ID : 264330548320

Option 2 ID : 264330548322

Option 3 ID : 264330548321

Option 4 ID : 264330548319

Status : Answered

Chosen Option : 3

Q.4 दो कथन दिए गए हैं और दो निष्कर्ष I और II दिए गए हैं। कथनों को सत्य मानते हुए, चाहे वे सामान्यतः ज्ञात तथ्यों से अलग प्रतीत होते हों, निश्चय कीजिए कि कौन-सा निष्कर्ष तार्किक रूप से कथनों के अनुसार है।
कथन:
सभी कॉपियाँ, पेंसिलें हैं।
कुछ कलमें, कॉपियाँ हैं।
निष्कर्ष:
I. सभी कलमें, पेंसिलें हैं।
II. कुछ पेंसिलें, कलमें हैं।

- Ans**
- 1. निष्कर्ष I और II में से कोई भी कथनों के अनुसार नहीं है
 - 2. दोनों निष्कर्ष I और II कथनों के अनुसार हैं
 - 3. सिर्फ निष्कर्ष II कथनों के अनुसार है
 - 4. सिर्फ निष्कर्ष I कथनों के अनुसार है

Question Type : **MCQ**
Question ID : **264330140441**
Option 1 ID : **264330550146**
Option 2 ID : **264330550145**
Option 3 ID : **264330550144**
Option 4 ID : **264330550143**
Status : **Answered**
Chosen Option : **3**

Q.5 दिए गए समीकरण को सही करने के लिए किन दो संख्याओं को आपस में बदला जाना चाहिए?
 $7 - 5 + 4 \times 2 = 25$

- Ans**
- 1. 4 और 2
 - 2. 25 और 7
 - 3. 7 और 5
 - 4. 5 और 2

Question Type : **MCQ**
Question ID : **264330140148**
Option 1 ID : **264330548973**
Option 2 ID : **264330548974**
Option 3 ID : **264330548972**
Option 4 ID : **264330548971**
Status : **Answered**
Chosen Option : **4**

Q.6 दी गई श्रृंखला में निम्नलिखित में से कौन-सी संख्या प्रश्न चिन्ह (?) के स्थान पर आएगी?
3, 7, 15, 31, 63, 127, 255, ?

- Ans
- 1. 520
 - 2. 560
 - 3. 511
 - 4. 510

Question Type : MCQ
Question ID : 264330135360
Option 1 ID : 264330530349
Option 2 ID : 264330530350
Option 3 ID : 264330530348
Option 4 ID : 264330530347
Status : Answered
Chosen Option : 3

Q.7 एक निश्चित कूट भाषा में 'HOME' को 'MOHE' लिखा जाता है। उस भाषा में 'CALM' को कैसे लिखा जाएगा?

- Ans
- 1. LACM
 - 2. LAMC
 - 3. LBCM
 - 4. MACL

Question Type : MCQ
Question ID : 264330140415
Option 1 ID : 264330550042
Option 2 ID : 264330550040
Option 3 ID : 264330550041
Option 4 ID : 264330550039
Status : Answered
Chosen Option : 1

Q.8 उस विकल्प को चुनिए जो तीसरे शब्द से ठीक उसी तरह संबंधित है जिस तरह दूसरा शब्द पहले शब्द से संबंधित है।
कनाडा : ओटावा :: इटली : ?

- Ans
- 1. पेरिस
 - 2. वेलिंगटन
 - 3. लंदन
 - 4. रोम

Question Type : MCQ
Question ID : 264330140454
Option 1 ID : 264330550196
Option 2 ID : 264330550198
Option 3 ID : 264330550197
Option 4 ID : 264330550195
Status : Answered
Chosen Option : 4

Q.9 सात लड़कियों I, II, III, IV, V, VI और VII में से, प्रत्येक की उम्र अलग-अलग है। VI, केवल III से बड़ी है। II, केवल VII से छोटी है। IV, चार अन्य लड़कियों से बड़ी है। I, V से छोटी है। लड़कियों में चौथी सबसे बड़ी कौन है?

- Ans**
- ✓ 1. V
 - ✗ 2. IV
 - ✗ 3. III
 - ✗ 4. VI

Question Type : **MCQ**

Question ID : **264330140141**

Option 1 ID : **264330548945**

Option 2 ID : **264330548944**

Option 3 ID : **264330548943**

Option 4 ID : **264330548946**

Status : **Answered**

Chosen Option : **3**

Q.10 तीन कथन दिए गए हैं और दो निष्कर्ष I और II दिए गए हैं। कथनों को सत्य मानते हुए, चाहे वे सामान्यतः ज्ञात तथ्यों से अलग प्रतीत होते हों, निश्चय कीजिए कि कौन-सा निष्कर्ष तार्किक रूप से कथनों के अनुसार है।
कथन:

सभी पेड़, फूल हैं।

सभी फूल, पंखुड़ियाँ हैं।

कुछ पंखुड़ियाँ, पत्तियाँ हैं।

निष्कर्ष:

I. सभी पेड़, पंखुड़ियाँ हैं।

II. कुछ पंखुड़ियाँ, फूल हैं।

Ans

- ✓ 1. दोनों निष्कर्ष I और II कथनों के अनुसार हैं

- ✗ 2. निष्कर्ष I और II में से कोई भी कथनों के अनुसार नहीं है

- ✗ 3. सिर्फ निष्कर्ष II कथनों के अनुसार है

- ✗ 4. सिर्फ निष्कर्ष I कथनों के अनुसार है

Question Type : **MCQ**

Question ID : **264330138777**

Option 1 ID : **264330543717**

Option 2 ID : **264330543718**

Option 3 ID : **264330543716**

Option 4 ID : **264330543715**

Status : **Answered**

Chosen Option : **1**

Q.11 सात खिलाड़ी विराट, राहुल, रोहित, सूर्या, हार्दिक, ऋषभ और दीपक एक वृत्ताकार मेज के चारों ओर केंद्र की ओर मुख करके बैठे हैं (परंतु जरूरी नहीं कि वे इसी क्रम में बैठे हों)। रोहित, विराट के बाईं ओर से दूसरे स्थान पर है। विराट, दीपक के दाईं ओर से चौथे स्थान पर है। हार्दिक, दीपक के ठीक बाईं ओर है। सूर्या, रोहित का निकटतम पड़ोसी नहीं है। ऋषभ, हार्दिक के दाईं ओर से दूसरे स्थान पर है। हार्दिक के दाईं ओर से चौथे स्थान पर कौन है?

- Ans
- 1. विराट
 - 2. सूर्या
 - 3. राहुल
 - 4. दीपक

Question Type : MCQ
Question ID : 264330139977
Option 1 ID : 264330548287
Option 2 ID : 264330548289
Option 3 ID : 264330548288
Option 4 ID : 264330548290
Status : Answered
Chosen Option : 3

Q.12 एक निश्चित कूट में, 'BHAkti' को 'GSIZFA' लिखा जाता है। उस कूट भाषा में 'BIKcER' को कैसे लिखा जाएगा?

- Ans
- 1. QDAJHA
 - 2. PDAJFA
 - 3. PDAJGA
 - 4. QDAJGA

Question Type : MCQ
Question ID : 264330140981
Option 1 ID : 264330552271
Option 2 ID : 264330552273
Option 3 ID : 264330552272
Option 4 ID : 264330552274
Status : Answered
Chosen Option : 3

Q.13 एक निश्चित कूट भाषा में, 'BONUS' को '215142119' लिखा जाता है। उस भाषा में 'FANCY' को कैसे लिखा जाएगा?

- Ans
- 1. 6114325
 - 2. 6113452
 - 3. 6114352
 - 4. 6113425

Question Type : MCQ
Question ID : 264330140416
Option 1 ID : 264330550045
Option 2 ID : 264330550043
Option 3 ID : 264330550044
Option 4 ID : 264330550046
Status : Answered
Chosen Option : 1

Q.14 उस विकल्प को चुनिए जो तीसरी संख्या से ठीक उसी प्रकार संबंधित है जिस प्रकार दूसरी संख्या पहली संख्या से संबंधित है।

64 : 512 :: 81 : ?

Ans 1. 728

2. 727

3. 729

4. 730

Question Type : MCQ

Question ID : 264330140425

Option 1 ID : 264330550079

Option 2 ID : 264330550081

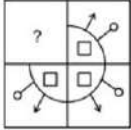
Option 3 ID : 264330550080

Option 4 ID : 264330550082

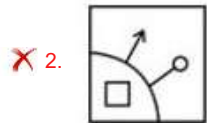
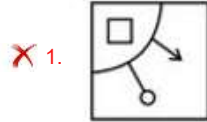
Status : Answered

Chosen Option : 3

Q.15 उस विकल्प आकृति को चुनिए जो पैटर्न को पूरा करने के लिए नीचे दी गई आकृति में प्रश्न चिन्ह (?) के स्थान पर आएगी। (घूर्णन की अनुमति नहीं है)



Ans



Question Type : MCQ

Question ID : 264330140031

Option 1 ID : 264330548503

Option 2 ID : 264330548504

Option 3 ID : 264330548505

Option 4 ID : 264330548506

Status : Answered

Chosen Option : 4

Q.16 उस विकल्प को चुनिए जो तीसरे शब्द से ठीक उसी तरह संबंधित है जिस तरह दूसरा शब्द पहले शब्द से संबंधित है।
प्रतिरोध (Resistance) : ओम (Ohm) :: ऊर्जा (Energy) : ?

- Ans**
- 1. मोल (Mole)
 - 2. म्हो (Mho)
 - 3. जूल (Joule)
 - 4. एम्पीयर (Ampere)

Question Type : **MCQ**

Question ID : **264330140473**

Option 1 ID : **264330550274**

Option 2 ID : **264330550272**

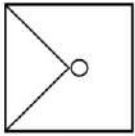
Option 3 ID : **264330550271**

Option 4 ID : **264330550273**

Status : **Answered**

Chosen Option : **3**

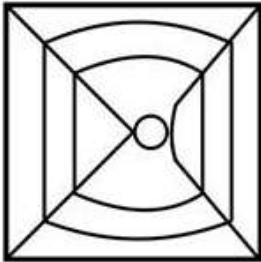
Q.17 उस विकल्प आकृति को चुनिए जिसमें दी गई आकृति (X) इसके भाग के रूप में निहित है। (घूर्णन की अनुमति नहीं है)।



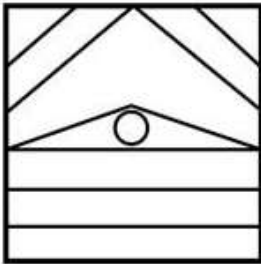
(X)

Ans

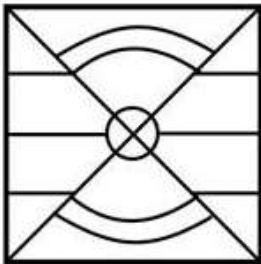
✓ 1.



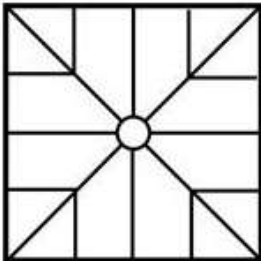
✗ 2.



✗ 3.



✗ 4.



Question Type : MCQ

Question ID : 264330140449

Option 1 ID : 264330550177

Option 2 ID : 264330550176

Option 3 ID : 264330550175

Option 4 ID : 264330550178

Status : Answered

Chosen Option : 1

Q.18 दी गई श्रृंखला में निम्नलिखित में से कौन-सा अक्षर-समूह प्रश्न चिन्ह (?) के स्थान पर आएगा?
PB, RZ, TX, VV, ?

- Ans 1. XT
 2. YU
 3. YT
 4. XU

Question Type : MCQ
Question ID : 264330140032
Option 1 ID : 264330548508
Option 2 ID : 264330548510
Option 3 ID : 264330548507
Option 4 ID : 264330548509
Status : Answered
Chosen Option : 1

Q.19 दी गई श्रृंखला में निम्नलिखित में से कौन-सी संख्या प्रश्न चिन्ह (?) के स्थान पर आएगी?
72, 78, 89, 95, 106, 112, 123, ?

- Ans 1. 129
 2. 140
 3. 200
 4. 85

Question Type : MCQ
Question ID : 264330140084
Option 1 ID : 264330548715
Option 2 ID : 264330548718
Option 3 ID : 264330548716
Option 4 ID : 264330548717
Status : Answered
Chosen Option : 1

Q.20 सात मित्र H, J, K, L, M, N, और O एक वृत्ताकार मेज के चारों ओर केंद्र की ओर मुख करके बैठे हैं। H, L के ठीक दाईं ओर बैठा है। J और K के ठीक बीच में N बैठा है। M, O के ठीक बाईं ओर बैठा है। N, M के बाईं ओर से दूसरे स्थान पर बैठा है। O के ठीक दाईं ओर कौन बैठा है?

- Ans 1. L
 2. J
 3. H
 4. N

Question Type : MCQ
Question ID : 264330138774
Option 1 ID : 264330543704
Option 2 ID : 264330543705
Option 3 ID : 264330543703
Option 4 ID : 264330543706
Status : Answered
Chosen Option : 1

Q.1 Which layer of the soil has maximum concentration of humus?

- Ans
- 1. Parent rock
 - 2. Top soil
 - 3. Sub soil
 - 4. Weathered rock material

Question Type : MCQ

Question ID : 264330140899

Option 1 ID : 264330551943

Option 2 ID : 264330551946

Option 3 ID : 264330551945

Option 4 ID : 264330551944

Status : Answered

Chosen Option : 1

Q.2 किस घटना के बाद महात्मा गांधी ने फरवरी 1922 में असहयोग आंदोलन वापस ले लिया था?

- Ans
- 1. सेंट्रल असेंबली में बम ब्लास्ट
 - 2. जलियांवाला बाग नरसंहार
 - 3. काकोरी ट्रेन डकैती
 - 4. चौरी चौरा घटना

Question Type : MCQ

Question ID : 264330139722

Option 1 ID : 264330547304

Option 2 ID : 264330547306

Option 3 ID : 264330547305

Option 4 ID : 264330547303

Status : Answered

Chosen Option : 4

Q.3 निम्नलिखित में से कौनसी नदी, नर्मदा नदी की सहायक नदी है?

- Ans
- 1. तवा
 - 2. कोयना
 - 3. केन
 - 4. बेतवा

Question Type : MCQ

Question ID : 264330140941

Option 1 ID : 264330552111

Option 2 ID : 264330552114

Option 3 ID : 264330552112

Option 4 ID : 264330552113

Status : Answered

Chosen Option : 2

Q.4 निम्नलिखित में से कौन-सा संस्मरण पूर्व प्रधानमंत्री डॉ. मनमोहन सिंह पर आधारित है?

Ans 1. द चेंज वी चूज (The Change We Choose)

2.

ए प्राइम मिनिस्टर टू रिमेंबर (A Prime Minister to Remember)

3. द प्राइम मिनिस्टर (The Prime Minister)

4.

द एक्सीडेंटल प्राइम मिनिस्टर (The Accidental Prime Minister)

Question Type : MCQ

Question ID : 264330140923

Option 1 ID : 264330552039

Option 2 ID : 264330552042

Option 3 ID : 264330552041

Option 4 ID : 264330552040

Status : Answered

Chosen Option : 4

Q.5 मीनल ने शनि के सबसे बड़े चंद्रमा पर एक निबंध लिखा था। यह निम्नलिखित में से कौन-सा चंद्रमा है?

Ans 1. यूरोपा (Europa)

2. टाइटन

3. कार्मे (Carme)

4. एटलस (Atlas)

Question Type : MCQ

Question ID : 264330140734

Option 1 ID : 264330551285

Option 2 ID : 264330551284

Option 3 ID : 264330551283

Option 4 ID : 264330551286

Status : Answered

Chosen Option : 2

Q.6 निम्नलिखित में से कौन-सा त्योहार गौतम बुद्ध की जयंती के रूप में मनाया जाता है?

Ans 1. वेसाक (Vesak)

2. होलिका दहन

3. पोंगल

4. महाशिवरात्रि

Question Type : MCQ

Question ID : 264330140654

Option 1 ID : 264330550965

Option 2 ID : 264330550963

Option 3 ID : 264330550966

Option 4 ID : 264330550964

Status : Answered

Chosen Option : 1

Q.7 निम्नलिखित में से कौन-सी जनजाति भारतीय-यूरोपीय भाषा परिवार से संबंधित है?

- Ans
- ✓ 1. भीली
 - ✗ 2. कोरवा
 - ✗ 3. गारो
 - ✗ 4. गोंडी

Question Type : MCQ
Question ID : 264330139768
Option 1 ID : 264330547487
Option 2 ID : 264330547489
Option 3 ID : 264330547490
Option 4 ID : 264330547488
Status : Not Answered
Chosen Option : --

Q.8 कुमी-काटा (Kumi-Kata), शिंताई (Shintai), उकेमी (Ukemi) शब्द का संबंध किस खेल से है?

- Ans
- ✓ 1. जूडो (Judo)
 - ✗ 2. तलवारबाजी (Fencing)
 - ✗ 3. पोलो (Polo)
 - ✗ 4. कुश्ती (Wrestling)

Question Type : MCQ
Question ID : 264330139727
Option 1 ID : 264330547324
Option 2 ID : 264330547326
Option 3 ID : 264330547325
Option 4 ID : 264330547323
Status : Not Answered
Chosen Option : --

Q.9 किस प्रसिद्ध शासक को "द्वितीय अशोक (Second Ashoka)" के नाम से जाना जाता था?

- Ans
- ✗ 1. मिलिंद (Milinda)
 - ✗ 2. चंद्रगुप्त द्वितीय
 - ✗ 3. रुद्रदामन प्रथम
 - ✓ 4. कनिष्क

Question Type : MCQ
Question ID : 264330140664
Option 1 ID : 264330551004
Option 2 ID : 264330551005
Option 3 ID : 264330551006
Option 4 ID : 264330551003
Status : Answered
Chosen Option : 4

Q.10 निम्नलिखित में से किस भारतीय नृत्य शैली का संबंध उड़ीसा से है?

- Ans
- 1. कथक
 - 2. छऊ
 - 3. भांगड़ा
 - 4. घूमर

Question Type : MCQ
Question ID : 264330140908
Option 1 ID : 264330551979
Option 2 ID : 264330551980
Option 3 ID : 264330551981
Option 4 ID : 264330551982
Status : Answered
Chosen Option : 2

Q.11 निम्नलिखित में से कौन-सा विज्ञान की आवर्त सारणी का एक उत्कृष्ट (Noble) रासायनिक तत्व है?

- Ans
- 1. नाइट्रोजन
 - 2. कोबाल्ट
 - 3. हीलियम
 - 4. स्कैंडियम

Question Type : MCQ
Question ID : 264330140731
Option 1 ID : 264330551274
Option 2 ID : 264330551271
Option 3 ID : 264330551273
Option 4 ID : 264330551272
Status : Answered
Chosen Option : 3

Q.12 तालीकोटा का युद्ध कब लड़ा गया था ?

- Ans
- 1. 1565
 - 2. 1576
 - 3. 1556
 - 4. 1542

Question Type : MCQ
Question ID : 264330140356
Option 1 ID : 264330549804
Option 2 ID : 264330549805
Option 3 ID : 264330549806
Option 4 ID : 264330549803
Status : Answered
Chosen Option : 1

Q.13 फीफा (FIFA) विश्व कप _____ खेल से संबंधित है।

- Ans
- 1. तलवारबाज़ी (Fencing)
 - 2. फुटबॉल (Football)
 - 3. रग्बी (Rugby)
 - 4. हॉकी (Hockey)

Question Type : MCQ
Question ID : 264330140928
Option 1 ID : 264330552062
Option 2 ID : 264330552061
Option 3 ID : 264330552060
Option 4 ID : 264330552059
Status : Answered
Chosen Option : 2

Q.14 मुस्लिम महिला (विवाह अधिकार संरक्षण) अधिनियम, 2019 एक ही बार में तीन बार तलाक़ कहकर दिए गए तत्काल तलाक़ (instant divorce) को शून्य और अवैध घोषित करता है। यह मौखिक रूप से तीन तलाक़ देने वाले पति के लिए _____ तक की कैद की सज़ा और जुर्माने का प्रावधान करता है।

- Ans
- 1. 5 वर्ष
 - 2. 2 वर्ष
 - 3. 3 वर्ष
 - 4. 4 वर्ष

Question Type : MCQ
Question ID : 264330140293
Option 1 ID : 264330549552
Option 2 ID : 264330549553
Option 3 ID : 264330549554
Option 4 ID : 264330549551
Status : Answered
Chosen Option : 3

Q.15 भारत के केंद्र शासित प्रदेशों का प्रशासन कौन चलाता है?

- Ans
- 1. राष्ट्रपति
 - 2. प्रधानमंत्री
 - 3. विधान सभा के सदस्य
 - 4. मुख्यमंत्री

Question Type : MCQ
Question ID : 264330140747
Option 1 ID : 264330551336
Option 2 ID : 264330551335
Option 3 ID : 264330551337
Option 4 ID : 264330551338
Status : Answered
Chosen Option : 1

Q.16 निम्नलिखित में से कौन-सा जनसंचार(मास मीडिया) का एक उदाहरण नहीं है?

- Ans
- 1. समाचार पत्र
 - 2. घर-घर जाकर अभियान करना
 - 3. रेडियो
 - 4. टेलीविज़न

Question Type : MCQ

Question ID : 264330139883

Option 1 ID : 264330547911

Option 2 ID : 264330547912

Option 3 ID : 264330547913

Option 4 ID : 264330547914

Status : Answered

Chosen Option : 2

Q.17 निम्नलिखित में से कौन-सा विटामिन हमारी हड्डियाँ और दाँतों के लिए कैल्शियम का उपयोग करने में हमारे शरीर की सहायता करता है?

- Ans
- 1. विटामिन A
 - 2. विटामिन E
 - 3. विटामिन C
 - 4. विटामिन D

Question Type : MCQ

Question ID : 264330139661

Option 1 ID : 264330547061

Option 2 ID : 264330547059

Option 3 ID : 264330547062

Option 4 ID : 264330547060

Status : Answered

Chosen Option : 3

Q.18 केंद्रीय पेट्रोलियम और प्राकृतिक गैस मंत्री हरदीप सिंह पुरी ने अक्टूबर 2022 में _____ में एशिया के सबसे बड़े संपीड़ित जैव गैस (Compressed Bio Gas - CBG) संयंत्र का उद्घाटन किया।

- Ans
- 1. चंडीगढ़
 - 2. पंजाब
 - 3. दिल्ली
 - 4. राजस्थान

Question Type : MCQ

Question ID : 264330140342

Option 1 ID : 264330549747

Option 2 ID : 264330549750

Option 3 ID : 264330549748

Option 4 ID : 264330549749

Status : Answered

Chosen Option : 2

Q.19 2011 की जनगणना के अनुसार, भारत की जनसंख्या का लिंगानुपात _____ है।

- Ans
- 1. 984
 - 2. 867
 - 3. 966
 - 4. 943

Question Type : MCQ
Question ID : 264330140762
Option 1 ID : 264330551397
Option 2 ID : 264330551398
Option 3 ID : 264330551396
Option 4 ID : 264330551395
Status : Answered
Chosen Option : 4

Q.20 'रोमांसिंग विद लाइफ (Romancing with Life)' सदाबहार अभिनेता _____ की आत्मकथा है।

- Ans
- 1. किशोर कुमार
 - 2. दिलीप कुमार
 - 3. देव आनंद
 - 4. शशि कपूर

Question Type : MCQ
Question ID : 264330139678
Option 1 ID : 264330547128
Option 2 ID : 264330547130
Option 3 ID : 264330547129
Option 4 ID : 264330547127
Status : Not Answered
Chosen Option : --

Q.21 रंगून में जेल भेजे गए अंतिम मुगल सम्राट _____ थे।

- Ans
- 1. बहादुर शाह ज़फ़र
 - 2. आलमगीर द्वितीय
 - 3. अकबर शाह द्वितीय
 - 4. शाह आलम द्वितीय

Question Type : MCQ
Question ID : 264330139696
Option 1 ID : 264330547200
Option 2 ID : 264330547202
Option 3 ID : 264330547199
Option 4 ID : 264330547201
Status : Answered
Chosen Option : 1

Q.22 वास्तुकला की इस्लामी शैली को _____ शैली के नाम से भी जाना जाता है।

- Ans
- 1. यशमक (Yashmak)
 - 2. मेहराब (Mehrab)
 - 3. हिज्राह (Hegira)
 - 4. आलिम (Alim)

Question Type : MCQ
Question ID : 264330140910
Option 1 ID : 264330551990
Option 2 ID : 264330551989
Option 3 ID : 264330551987
Option 4 ID : 264330551988
Status : Answered
Chosen Option : 2

Q.23 भारतीय संविधान का कौन-सा भाग केंद्र शासित प्रदेशों की बात करता है?

- Ans
- 1. भाग X
 - 2. भाग XI
 - 3. भाग VI
 - 4. भाग VIII

Question Type : MCQ
Question ID : 264330140746
Option 1 ID : 264330551332
Option 2 ID : 264330551333
Option 3 ID : 264330551331
Option 4 ID : 264330551334
Status : Answered
Chosen Option : 2

Q.24 सभी मनुष्यों की कोशिकाओं के केन्द्रक में गुणसूत्रों के _____ जोड़े होते हैं।

- Ans
- 1. 23
 - 2. 33
 - 3. 11
 - 4. 41

Question Type : MCQ
Question ID : 264330138985
Option 1 ID : 264330544548
Option 2 ID : 264330544549
Option 3 ID : 264330544547
Option 4 ID : 264330544550
Status : Answered
Chosen Option : 1

Q.25 How many types of revenue receipts exist in the economy?

- Ans
- 1. Five
 - 2. Two
 - 3. Three
 - 4. Four

Question Type : MCQ
Question ID : 264330139758
Option 1 ID : 264330547447
Option 2 ID : 264330547448
Option 3 ID : 264330547449
Option 4 ID : 264330547450
Status : Answered
Chosen Option : 3

Section : English Language and Comprehension

Q.1 Improve the underlined part of the sentence. Choose 'No improvement' as an answer if the sentence is grammatically correct.

In the summer, the bear eaten a lot of berries.

- Ans
- 1. have ate a lot
 - 2. eat a lot
 - 3. No improvement
 - 4. eats a lot

Question Type : MCQ
Question ID : 264330135538
Option 1 ID : 264330531057
Option 2 ID : 264330531056
Option 3 ID : 264330531058
Option 4 ID : 264330531055
Status : Answered
Chosen Option : 4

Q.2 Select the most appropriate option to fill in the blank.

Still, this is a Frank Black album, with its _____ references and abstruse lyrics.

- Ans
- 1. informal
 - 2. obscure
 - 3. intelligent
 - 4. apparent

Question Type : MCQ
Question ID : 264330135826
Option 1 ID : 264330532178
Option 2 ID : 264330532175
Option 3 ID : 264330532176
Option 4 ID : 264330532177
Status : Answered
Chosen Option : 1

Q.3 Choose the sentence with no spelling error.

- Ans 1. Price is the monetary value placed on a product.
 2. Price is the monetary value plased on a product.
 3. Price is the moneterly vallue placed on a product.
 4. Price is the monitary value placed on a product.

Question Type : MCQ
Question ID : 264330135175
Option 1 ID : 264330529634
Option 2 ID : 264330529632
Option 3 ID : 264330529633
Option 4 ID : 264330529631
Status : Answered
Chosen Option : 1

Q.4 Improve the underlined part of the sentence. Choose 'No improvement' as an answer if the sentence is grammatically correct.

If you want to have two cats, a male and a female will usually gotten along.

- Ans 1. No improvement
 2. will usually get
 3. will usual get
 4. will usually got

Question Type : MCQ
Question ID : 264330141181
Option 1 ID : 264330553066
Option 2 ID : 264330553063
Option 3 ID : 264330553064
Option 4 ID : 264330553065
Status : Answered
Chosen Option : 2

Q.5 Select the most appropriate option to fill in the blank.

The event, promised to be a grand show, will see a display of grit, _____ and mettle.

- Ans 1. zeal
 2. zenith
 3. tyro
 4. umbrage

Question Type : MCQ
Question ID : 264330135688
Option 1 ID : 264330531644
Option 2 ID : 264330531645
Option 3 ID : 264330531643
Option 4 ID : 264330531646
Status : Answered
Chosen Option : 1

Q.6 Select the most appropriate antonym of the given word.

Complicate

- Ans**
- 1. Healthy
 - 2. Enlighten
 - 3. Dominate
 - 4. Multiply

Question Type : **MCQ**
Question ID : **264330136283**
Option 1 ID : **264330533911**
Option 2 ID : **264330533912**
Option 3 ID : **264330533913**
Option 4 ID : **264330533914**
Status : **Answered**
Chosen Option : **1**

Q.7 Find the part of the given sentence that has an error in it. If there is no error, choose 'No error'.

A long hoped-for revival in private investment has not take place.

- Ans**
- 1. A long hoped-for revival
 - 2. No error
 - 3. in private investment has
 - 4. not take place.

Question Type : **MCQ**
Question ID : **264330135231**
Option 1 ID : **264330529847**
Option 2 ID : **264330529850**
Option 3 ID : **264330529848**
Option 4 ID : **264330529849**
Status : **Answered**
Chosen Option : **4**

Q.8 Select the most appropriate meaning of the bracketed idiom in the given sentence.

He bought (a baker's dozen) of biscuits.

- Ans**
- 1. Twelve
 - 2. Ten
 - 3. Thirteen
 - 4. Fifteen

Question Type : **MCQ**
Question ID : **264330136764**
Option 1 ID : **264330535760**
Option 2 ID : **264330535761**
Option 3 ID : **264330535759**
Option 4 ID : **264330535762**
Status : **Answered**
Chosen Option : **3**

Q.9 Identify the segment that contains a grammatical error. If there is no error, select 'No error'.

There is not one/ that have not/ been duplicated.

- Ans**
- 1. There is not one
 - 2. been duplicated.
 - 3. that have not
 - 4. No error

Question Type : **MCQ**
Question ID : **264330136535**
Option 1 ID : **264330534879**
Option 2 ID : **264330534881**
Option 3 ID : **264330534880**
Option 4 ID : **264330534882**
Status : **Answered**
Chosen Option : **3**

Q.10 Fill in the blank with the most appropriate choice.

His students from his time at Manchester University remember his lectures as extraordinarily _____.

- Ans**
- 1. flaccid
 - 2. rancid
 - 3. lucid
 - 4. ballistic

Question Type : **MCQ**
Question ID : **264330135843**
Option 1 ID : **264330532241**
Option 2 ID : **264330532239**
Option 3 ID : **264330532240**
Option 4 ID : **264330532242**
Status : **Answered**
Chosen Option : **3**

Q.11 Fill in the blank with the most appropriate option.

Be present _____ the moment.

- Ans**
- 1. upon
 - 2. in
 - 3. on
 - 4. to

Question Type : **MCQ**
Question ID : **264330135747**
Option 1 ID : **264330531873**
Option 2 ID : **264330531874**
Option 3 ID : **264330531871**
Option 4 ID : **264330531872**
Status : **Answered**
Chosen Option : **2**

Q.12 Select the most appropriate meaning of the given idiom.

Hit the hay

- Ans
- 1. To go to bed
 - 2. A sarcastic response
 - 3. To take revenge
 - 4. To buy or sell something

Question Type : MCQ
Question ID : 264330136129
Option 1 ID : 264330533322
Option 2 ID : 264330533321
Option 3 ID : 264330533320
Option 4 ID : 264330533319
Status : Answered
Chosen Option : 3

Q.13 Choose the word that can substitute the given group of words.

A person, who travels in spacecraft

- Ans
- 1. Cadet
 - 2. Ghetto
 - 3. Voyeur
 - 4. Astronaut

Question Type : MCQ
Question ID : 264330135549
Option 1 ID : 264330531097
Option 2 ID : 264330531095
Option 3 ID : 264330531096
Option 4 ID : 264330531098
Status : Answered
Chosen Option : 4

Q.14 Select the appropriate antonym for the underlined word.

Our children need vital lessons in wealth management.

- Ans
- 1. organic
 - 2. superfluous
 - 3. healthy
 - 4. clever

Question Type : MCQ
Question ID : 264330135656
Option 1 ID : 264330531519
Option 2 ID : 264330531522
Option 3 ID : 264330531520
Option 4 ID : 264330531521
Status : Answered
Chosen Option : 2

Q.15 Select the most appropriate word for the given group of words.

A group of ants

- Ans
- 1. Colony
 - 2. Bushel
 - 3. Pack
 - 4. Comb

Question Type : MCQ
Question ID : 264330136425
Option 1 ID : 264330534460
Option 2 ID : 264330534459
Option 3 ID : 264330534462
Option 4 ID : 264330534461
Status : Answered
Chosen Option : 1

Q.16 Select the correctly spelt word.

- Ans
- 1. Plagerism
 - 2. Plagiarsm
 - 3. Plagiarism
 - 4. Plageriasm

Question Type : MCQ
Question ID : 264330136765
Option 1 ID : 264330535763
Option 2 ID : 264330535765
Option 3 ID : 264330535764
Option 4 ID : 264330535766
Status : Answered
Chosen Option : 1

Q.17 Select the appropriate synonym for the underlined word.

She couldn't really be irritated with him.

- Ans
- 1. delighted
 - 2. annoyed
 - 3. pleased
 - 4. obliged

Question Type : MCQ
Question ID : 264330135246
Option 1 ID : 264330529903
Option 2 ID : 264330529905
Option 3 ID : 264330529906
Option 4 ID : 264330529904
Status : Answered
Chosen Option : 2

Q.18 Identify the segment that contains a grammatical error. If there is no error, select 'No error'.

These include the nature/ documentaries, including/ The Blue Planet and Planet Earth.

- Ans**
- 1. These include the nature
 - 2. documentaries, including
 - 3. No error
 - 4. The Blue Planet and Planet Earth.

Question Type : **MCQ**
Question ID : **264330136537**
Option 1 ID : **264330534887**
Option 2 ID : **264330534888**
Option 3 ID : **264330534890**
Option 4 ID : **264330534889**
Status : **Answered**
Chosen Option : **4**

Q.19 Select the appropriate synonym for the underlined word.

The symbols were useless to him.

- Ans**
- 1. reachable
 - 2. successful
 - 3. worthless
 - 4. valuable

Question Type : **MCQ**
Question ID : **264330141178**
Option 1 ID : **264330553052**
Option 2 ID : **264330553051**
Option 3 ID : **264330553053**
Option 4 ID : **264330553054**
Status : **Answered**
Chosen Option : **3**

Q.20 Select the most appropriate option to substitute the bracketed segment in the given sentence. If there is no need to substitute it, select 'no substitution required'.

(Hardly had I started mowing the lawn that) it started raining.

- Ans**
- 1. No sooner did I started mowing the lawn than
 - 2. Hardly had I started mowing the lawn when
 - 3. Hardly did I start mowing the lawn than
 - 4. No substitution required

Question Type : **MCQ**
Question ID : **264330136487**
Option 1 ID : **264330534695**
Option 2 ID : **264330534696**
Option 3 ID : **264330534697**
Option 4 ID : **264330534698**
Status : **Answered**
Chosen Option : **2**

Comprehension:

In the following passage some words have been deleted. Fill in the blanks with the help of the alternatives given. Select the most appropriate option for each number.

Each went his way, the prince to (1) _____ the ways of the court, the brahmin to (2) _____ with Parasuram, the renowned scholar-warrior. He mastered (3) _____, married a virtuous woman, and (4) _____ a beautiful son. (5) _____ poor, he was proud of his learning.

SubQuestion No : 21

Q.21 Select the most appropriate option to fill in blank number 1.

- Ans**
- 1. receive
 - 2. cram
 - 3. learn
 - 4. absorb

Question Type : **MCQ**

Question ID : **264330136274**

Option 1 ID : **264330533878**

Option 2 ID : **264330533875**

Option 3 ID : **264330533876**

Option 4 ID : **264330533877**

Status : **Answered**

Chosen Option : **3**

Comprehension:

In the following passage some words have been deleted. Fill in the blanks with the help of the alternatives given. Select the most appropriate option for each number.

Each went his way, the prince to (1) _____ the ways of the court, the brahmin to (2) _____ with Parasuram, the renowned scholar-warrior. He mastered (3) _____, married a virtuous woman, and (4) _____ a beautiful son. (5) _____ poor, he was proud of his learning.

SubQuestion No : 22

Q.22 Select the most appropriate option to fill in blank number 2.

- Ans**
- 1. study across
 - 2. study further
 - 3. study former
 - 4. study another

Question Type : **MCQ**

Question ID : **264330136275**

Option 1 ID : **264330533881**

Option 2 ID : **264330533879**

Option 3 ID : **264330533880**

Option 4 ID : **264330533882**

Status : **Answered**

Chosen Option : **2**

Comprehension:

In the following passage some words have been deleted. Fill in the blanks with the help of the alternatives given. Select the most appropriate option for each number.

Each went his way, the prince to (1) _____ the ways of the court, the brahmin to (2) _____ with Parasuram, the renowned scholar-warrior. He mastered (3) _____, married a virtuous woman, and (4) _____ a beautiful son. (5) _____ poor, he was proud of his learning.

SubQuestion No : 23

Q.23 Select the most appropriate option to fill in blank number 3.

- Ans**
- 1. the arts of war
 - 2. the supplies of war
 - 3. the art even craft of war
 - 4. the attitude of war

Question Type : **MCQ**
Question ID : **264330136276**
Option 1 ID : **264330533886**
Option 2 ID : **264330533884**
Option 3 ID : **264330533883**
Option 4 ID : **264330533885**
Status : **Answered**
Chosen Option : **1**

Comprehension:

In the following passage some words have been deleted. Fill in the blanks with the help of the alternatives given. Select the most appropriate option for each number.

Each went his way, the prince to (1) _____ the ways of the court, the brahmin to (2) _____ with Parasuram, the renowned scholar-warrior. He mastered (3) _____, married a virtuous woman, and (4) _____ a beautiful son. (5) _____ poor, he was proud of his learning.

SubQuestion No : 24

Q.24 Select the most appropriate option to fill in blank number 4.

- Ans**
- 1. had
 - 2. has
 - 3. given
 - 4. have

Question Type : **MCQ**
Question ID : **264330136277**
Option 1 ID : **264330533887**
Option 2 ID : **264330533889**
Option 3 ID : **264330533890**
Option 4 ID : **264330533888**
Status : **Answered**
Chosen Option : **3**

Comprehension:

In the following passage some words have been deleted. Fill in the blanks with the help of the alternatives given. Select the most appropriate option for each number.

Each went his way, the prince to (1) _____ the ways of the court, the brahmin to (2) _____ with Parasuram, the renowned scholar-warrior. He mastered (3) _____, married a virtuous woman, and (4) _____ a beautiful son. (5) _____ poor, he was proud of his learning.

SubQuestion No : 25

Q.25 Select the most appropriate option to fill in blank number 5.

- Ans**
- 1. Though
 - 2. Even
 - 3. So
 - 4. Because

Question Type : **MCQ**

Question ID : **264330136278**

Option 1 ID : **264330533893**

Option 2 ID : **264330533891**

Option 3 ID : **264330533894**

Option 4 ID : **264330533892**

Status : **Answered**

Chosen Option : **1**

Multi Tasking Non Technical Staff and Havaladar CBIC and CBN Examination 2022

Roll Number	KD Job Updates
Candidate Name	KD Job Updates
Venue Name	BBDIT A Block Duhai
Exam Date	19/06/2023
Exam Time	12:00 PM - 2:00 PM
Subject	MTS Non Tech Havaladar CBIC and CBN Examination 2022

Section : Numerical and Mathematical Ability

Q.1 यदि एक निश्चित धनराशि पर 6% वार्षिक दर से 8 वर्षों का साधारण ब्याज Rs.4041.60 है, तो वह धनराशि कितनी है?

- Ans 1. Rs. 8420
 2. Rs. 6980
 3. Rs. 7850
 4. Rs. 8680

Question Type : MCQ

Question ID : 264330139047

Option 1 ID : 264330544795

Option 2 ID : 264330544798

Option 3 ID : 264330544796

Option 4 ID : 264330544797

Status : Answered

Chosen Option : 2

Q.2 रोमा किसी कार्य को 1 दिन में कर सकती है और भाविक उसी कार्य को 20 घंटों में कर सकता है। वे एक साथ मिलकर कार्य को कितने समय में पूरा करेंगे?

- Ans 1. 120/11 घंटे
 2. 120/7 घंटे
 3. 100/7 घंटे
 4. 100/11 घंटे

Question Type : MCQ

Question ID : 264330140835

Option 1 ID : 264330551687

Option 2 ID : 264330551689

Option 3 ID : 264330551690

Option 4 ID : 264330551688

Status : Answered

Chosen Option : 1

Q.3 $98 + 28 \div 7 + 4 - 91 \div 13 \times 7 \times 2$ का मान क्या है?

- Ans
- 1. 20
 - 2. 8
 - 3. 16
 - 4. 12

Question Type : MCQ

Question ID : 264330139032

Option 1 ID : 264330544737

Option 2 ID : 264330544735

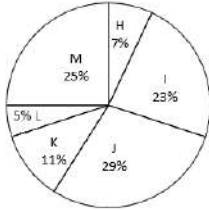
Option 3 ID : 264330544736

Option 4 ID : 264330544738

Status : Answered

Chosen Option : 2

Q.4 नीचे दिए गए वृत्त आलेख में छः विद्यालयों में पढ़ने वाले छात्रों की संख्या को दर्शाया गया है। इन सभी छः विद्यालयों में पढ़ने वाले छात्रों की कुल संख्या 6000 है। इनमें से किसी एक विशिष्ट विद्यालय में पढ़ने वाले छात्रों की संख्या को इन सभी छः विद्यालयों में पढ़ने वाले छात्रों की कुल संख्या के प्रतिशत के रूप में दर्शाया गया है।



विद्यालय H, I और K में पढ़ने वाले छात्रों की कुल संख्या, विद्यालय J, L और M में पढ़ने वाले छात्रों की कुल संख्या से कितने प्रतिशत कम है?

- Ans
- 1. 25.5 प्रतिशत
 - 2. 30.5 प्रतिशत
 - 3. 45.5 प्रतिशत
 - 4. 35.5 प्रतिशत

Question Type : MCQ

Question ID : 264330139035

Option 1 ID : 264330544747

Option 2 ID : 264330544750

Option 3 ID : 264330544749

Option 4 ID : 264330544748

Status : Answered

Chosen Option : 2

Q.5 Rs.2250 के एक मूलधन पर 5 वर्षों के लिए 6 प्रतिशत वार्षिक दर पर साधारण ब्याज कितना होगा?

- Ans
- 1. Rs.715
 - 2. Rs.675
 - 3. Rs.725
 - 4. Rs.625

Question Type : MCQ

Question ID : 264330139598

Option 1 ID : 264330546810

Option 2 ID : 264330546807

Option 3 ID : 264330546808

Option 4 ID : 264330546809

Status : Answered

Chosen Option : 2

Q.6 $\frac{49}{63} \div \frac{21}{9} - \frac{85}{510} + \frac{88}{132} \div \frac{66}{11}$
 $\frac{1}{7} \div \frac{21}{21} + \frac{143}{143} - \frac{1}{209} \div \frac{1}{19}$ का मान क्या है?

- Ans
- 1. 55/36
 - 2. 55/39
 - 3. 13/46
 - 4. 44/13

Question Type : MCQ

Question ID : 264330140210

Option 1 ID : 264330549220

Option 2 ID : 264330549219

Option 3 ID : 264330549222

Option 4 ID : 264330549221

Status : Answered

Chosen Option : 2

Q.7 प्रथम 13 प्राकृत संख्याओं के वर्गों का औसत क्या है?

- Ans
- 1. 63
 - 2. 74
 - 3. 65
 - 4. 72

Question Type : MCQ

Question ID : 264330139611

Option 1 ID : 264330546862

Option 2 ID : 264330546860

Option 3 ID : 264330546861

Option 4 ID : 264330546859

Status : Answered

Chosen Option : 2

Q.8 एक व्यापारी अपनी वस्तु का मूल्य क्रय मूल्य से 20 प्रतिशत अधिक अंकित करता है। वह इस पर कुछ बढ़ा देता है और 10 प्रतिशत का लाभ अर्जित करता है। बढ़े का प्रतिशत क्या है?

- Ans
- 1. 12.5 प्रतिशत
 - 2. 10 प्रतिशत
 - 3. 8.33 प्रतिशत
 - 4. 9.09 प्रतिशत

Question Type : MCQ
Question ID : 264330139923
Option 1 ID : 264330548071
Option 2 ID : 264330548074
Option 3 ID : 264330548072
Option 4 ID : 264330548073
Status : Answered
Chosen Option : 3

Q.9 सात दोस्तों में से प्रत्येक ने एक परियोजना पर Rs.16 खर्च किए और आठवें दोस्त ने उन सभी आठों के औसत खर्च से Rs.35 अधिक खर्च किए। उनके द्वारा खर्च की गई कुल धनराशि कितनी है?

- Ans
- 1. Rs. 148
 - 2. Rs. 176
 - 3. Rs. 168
 - 4. Rs. 160

Question Type : MCQ
Question ID : 264330139612
Option 1 ID : 264330546863
Option 2 ID : 264330546866
Option 3 ID : 264330546864
Option 4 ID : 264330546865
Status : Answered
Chosen Option : 1

Q.10 एक आदमी एक रुपए में 8 पेन खरीदता है। 60 प्रतिशत का लाभ अर्जित करने के लिए उसे एक रुपए में कितनी पेन बेचनी चाहिए?

- Ans
- 1. 3
 - 2. 6
 - 3. 4
 - 4. 5

Question Type : MCQ
Question ID : 264330139022
Option 1 ID : 264330544695
Option 2 ID : 264330544697
Option 3 ID : 264330544696
Option 4 ID : 264330544698
Status : Answered
Chosen Option : 4

Q.11 एक महामारी के फैलने से एक छोटे शहर की आबादी 18,000 से घटकर 15,000 हो गई। जनसंख्या में कितने प्रतिशत की कमी हुई है?

- Ans
- 1. 17%
 - 2. 16.99%
 - 3. 16.66%
 - 4. 16.5%

Question Type : MCQ
Question ID : 264330140781
Option 1 ID : 264330551473
Option 2 ID : 264330551471
Option 3 ID : 264330551472
Option 4 ID : 264330551474
Status : Answered
Chosen Option : 3

Q.12 220 मीटर × 70 मीटर का एक आयताकार बगीचा है। बगीचे के चारों ओर 4 मीटर चौड़ा एक पथ बनाया गया है। पथ का क्षेत्रफल कितना है?

- Ans
- 1. 1836 metre²
 - 2. 2384 metre²
 - 3. 2162 metre²
 - 4. 2472 metre²

Question Type : MCQ
Question ID : 264330139622
Option 1 ID : 264330546905
Option 2 ID : 264330546903
Option 3 ID : 264330546904
Option 4 ID : 264330546906
Status : Answered
Chosen Option : 2

Q.13 किसी एक स्कूल में लड़कों और लड़कियों का अनुपात 5 : 7 है। यदि स्कूल में 2400 छात्र हैं, तो लड़कियों की संख्या कितनी है?

- Ans
- 1. 1000
 - 2. 1600
 - 3. 1400
 - 4. 1200

Question Type : MCQ
Question ID : 264330140785
Option 1 ID : 264330551490
Option 2 ID : 264330551489
Option 3 ID : 264330551488
Option 4 ID : 264330551487
Status : Answered
Chosen Option : 3

Q.14 P1, P2 से 4 गुना कुशल है और दोनों मिलकर एक कार्य को 16 दिनों में पूरा करते हैं। P1 अकेले उसी कार्य को कितने दिनों में पूरा करेगा?

- Ans
- 1. 30 दिनों में
 - 2. 18 दिनों में
 - 3. 20 दिनों में
 - 4. 25 दिनों में

Question Type : MCQ
Question ID : 264330139912
Option 1 ID : 264330548028
Option 2 ID : 264330548030
Option 3 ID : 264330548029
Option 4 ID : 264330548027
Status : Answered
Chosen Option : 3

Q.15 हल कीजिए: $11 \times 3 + (45 \div 9) + (72 \div 8) - 5 + 4$

- Ans
- 1. 46
 - 2. 48
 - 3. 44
 - 4. 45

Question Type : MCQ
Question ID : 264330140776
Option 1 ID : 264330551451
Option 2 ID : 264330551453
Option 3 ID : 264330551454
Option 4 ID : 264330551452
Status : Answered
Chosen Option : 1

Q.16 24 cm आंतरिक व्यास वाला एक अर्धगोलाकार कटोरा एक तरल पदार्थ से भरा है। इस तरल पदार्थ को 4 cm त्रिज्या और 18 cm ऊँचाई वाली बेलनाकार बोटलों में भरना है। इस कटोरे को खाली करने के लिए ऐसी कितनी बोटलों की आवश्यकता होगी?

- Ans
- 1. 7
 - 2. 5
 - 3. 2
 - 4. 4

Question Type : MCQ
Question ID : 264330138410
Option 1 ID : 264330542249
Option 2 ID : 264330542247
Option 3 ID : 264330542250
Option 4 ID : 264330542248
Status : Answered
Chosen Option : 2

Q.17 एक नाव बिंदु P से Q तक धारा के प्रतिकूल 6 घंटे यात्रा करती है और वापस आते समय बिंदु Q से R तक धारा के अनुकूल अगले 6 घंटे यात्रा करती है। यदि बिंदु P और R के बीच की दूरी 72 km है, तो स्थिर जल में नाव की चाल क्या है?

- Ans
- 1. 14 km/hr
 - 2. 12 km/hr
 - 3. 6 km/hr
 - 4. 10 km/hr

Question Type : MCQ

Question ID : 264330139953

Option 1 ID : 264330548193

Option 2 ID : 264330548192

Option 3 ID : 264330548191

Option 4 ID : 264330548194

Status : Answered

Chosen Option : 2

Q.18 एक बक्से में 5 रुपए, 2 रुपए और 1 रुपए के सिक्के हैं और उनके कुल मूल्य का अनुपात क्रमशः 10 : 6 : 3 है। यदि बक्से में कुल 256 सिक्के हैं, तो बक्से में 5 रुपए के कितने सिक्के हैं?

- Ans
- 1. 64
 - 2. 72
 - 3. 60
 - 4. 84

Question Type : MCQ

Question ID : 264330140162

Option 1 ID : 264330549027

Option 2 ID : 264330549028

Option 3 ID : 264330549029

Option 4 ID : 264330549030

Status : Answered

Chosen Option : 2

Q.19 निम्न तालिका में देश A, B और C की जनसंख्या को दर्शाया गया है। किस देश की जनसंख्या, सभी वर्षों की कुल जनसंख्या में सबसे कम है?

Year	Country A	Country B	Country C
2014	5000	8000	11000
2015	10000	8000	14000
2016	11000	9000	13000
2017	12000	9000	16000
2018	9000	11000	14000

Year: वर्ष, Country: देश

- Ans
- 1. A और B
 - 2. A
 - 3. C
 - 4. B

Question Type : MCQ

Question ID : 264330140792

Option 1 ID : 264330551518

Option 2 ID : 264330551515

Option 3 ID : 264330551516

Option 4 ID : 264330551517

Status : Answered

Chosen Option : 1

Q.20 मुकेश दो शर्ट बेचता है। पहली शर्ट का क्रय मूल्य, दूसरी शर्ट के विक्रय मूल्य के बराबर है। पहली शर्ट को 20 प्रतिशत के लाभ पर बेचा जाता है और दूसरी शर्ट को 20 प्रतिशत की हानि पर बेचा जाता है। पहली शर्ट के विक्रय मूल्य और दूसरी शर्ट के क्रय मूल्य का अनुपात क्या है?

- Ans**
- 1. 18 : 25
 - 2. 97 : 100
 - 3. 24 : 25
 - 4. 27 : 50

Question Type : **MCQ**
 Question ID : **264330140570**
 Option 1 ID : **264330550631**
 Option 2 ID : **264330550633**
 Option 3 ID : **264330550632**
 Option 4 ID : **264330550634**
 Status : **Answered**
 Chosen Option : **3**

Section : Reasoning Ability and Problem Solving

Q.1 उस विकल्प आकृति को चुनिए जिसमें दी गई आकृति निहित है।(घूर्णन की अनुमति नहीं है)



Ans

- 1.
- 2.
- 3.
- 4.

Question Type : **MCQ**
 Question ID : **264330139585**
 Option 1 ID : **264330546758**
 Option 2 ID : **264330546756**
 Option 3 ID : **264330546755**
 Option 4 ID : **264330546757**
 Status : **Answered**
 Chosen Option : **2**

Q.2 उस विकल्प को चुनिए जो तीसरी संख्या से ठीक उसी तरह संबंधित है जिस तरह दूसरी संख्या पहली संख्या से संबंधित है।
542 : 33 :: 274 : ?

- Ans**
- 1. 36
 - 2. 39
 - 3. 42
 - 4. 46

Question Type : **MCQ**
Question ID : **264330140445**
Option 1 ID : **264330550162**
Option 2 ID : **264330550159**
Option 3 ID : **264330550160**
Option 4 ID : **264330550161**
Status : **Answered**
Chosen Option : **2**

Q.3 Select the option that is related to the third word in the same way as the second word is related to the first word.
Refrain : Abstain :: Demolish : ?

- Ans**
- 1. Create
 - 2. Blend
 - 3. Improve
 - 4. Destroy

Question Type : **MCQ**
Question ID : **264330137831**
Option 1 ID : **264330539931**
Option 2 ID : **264330539934**
Option 3 ID : **264330539933**
Option 4 ID : **264330539932**
Status : **Answered**
Chosen Option : **4**

Q.4 दिए गए पैटर्न का ध्यानपूर्वक अध्ययन कीजिए और उस संख्या को चुनिए जो इसमें प्रश्न चिन्ह (?) के स्थान पर आ सकती है।
प्रथम पंक्ति- 8, 32, 64
द्वितीय पंक्ति- 7, 28, 56
तृतीय पंक्ति- 12, 48, ?

- Ans**
- 1. 96
 - 2. 48
 - 3. 58
 - 4. 55

Question Type : **MCQ**
Question ID : **264330138802**
Option 1 ID : **264330543817**
Option 2 ID : **264330543815**
Option 3 ID : **264330543818**
Option 4 ID : **264330543816**
Status : **Answered**
Chosen Option : **1**

Q.5 In the following question below are given some statements followed by some conclusions based on those statements. Taking the given statements to be true even if they seem to be at variance from commonly known facts. Read all the conclusions and then decide which of the given conclusion logically follows the given statements.

Statements:

I. Some L are M.

II. No N is M.

Conclusion:

I. Some N are L.

II. No M is L.

- Ans** 1. Both conclusions I and II follows
 2. Neither conclusion follows
 3. Only conclusion I follows
 4. Only conclusion II follows

Question Type : **MCQ**

Question ID : **264330139537**

Option 1 ID : **264330546565**

Option 2 ID : **264330546566**

Option 3 ID : **264330546563**

Option 4 ID : **264330546564**

Status : **Answered**

Chosen Option : **2**

Q.6 यदि A का अर्थ 'जोड़', B का अर्थ 'गुणा', C का अर्थ 'घटाव' और D का अर्थ 'भाग' हो, तो निम्नलिखित समीकरण का मान क्या होगा?

59 C 48 A (66 D 3) B 4 = ?

- Ans** 1. 94
 2. 82
 3. 99
 4. 79

Question Type : **MCQ**

Question ID : **264330140088**

Option 1 ID : **264330548734**

Option 2 ID : **264330548731**

Option 3 ID : **264330548733**

Option 4 ID : **264330548732**

Status : **Answered**

Chosen Option : **3**

Q.7 एक निश्चित कूट भाषा में, 'VIOLATES' को 'TALOVIES' लिखा जाता है। उस भाषा में 'VELVETIN' को कैसे लिखा जाएगा?

- Ans
- 1. TEVLSEAT
 - 2. TEVLVEIN
 - 3. TEVLAETS
 - 4. TEVLTASE

Question Type : MCQ

Question ID : 264330140077

Option 1 ID : 264330548690

Option 2 ID : 264330548687

Option 3 ID : 264330548689

Option 4 ID : 264330548688

Status : Answered

Chosen Option : 2

Q.8 निम्नलिखित प्रश्न में, दी गई श्रृंखला में लुप्त संख्या को चुनिए।

84, 95, 107, 120, 134, ?

- Ans
- 1. 149
 - 2. 154
 - 3. 150
 - 4. 151

Question Type : MCQ

Question ID : 264330139559

Option 1 ID : 264330546651

Option 2 ID : 264330546653

Option 3 ID : 264330546652

Option 4 ID : 264330546654

Status : Answered

Chosen Option : 1

Q.9 पाँच मित्र एंथनी, बंटी, गिरिधर, राहुल और तरुण को एक पंक्ति में उत्तर की ओर मुख करके बैठाया गया है, लेकिन जरूरी नहीं कि वे इसी क्रम में बैठें हों। बंटी पंक्ति के बाएँ छोर पर बैठा है। एंथनी और गिरिधर के बीच केवल दो मित्र बैठे हैं। एंथनी, बंटी के ठीक बगल में बैठा है और राहुल, बंटी के दाएँ से दूसरे स्थान पर बैठा है। राहुल और गिरिधर के बीच कौन बैठा है?

- Ans
- 1. एंथनी
 - 2. तरुण
 - 3. बंटी
 - 4. कोई नहीं

Question Type : MCQ

Question ID : 264330140458

Option 1 ID : 264330550213

Option 2 ID : 264330550212

Option 3 ID : 264330550211

Option 4 ID : 264330550214

Status : Answered

Chosen Option : 2

Q.10 पाँच सहेलियों पूनम, नेहा, रेखा, श्रुति और ट्विंकल में ट्विंकल केवल तीन अन्य सहेलियों से लंबी है। रेखा सभी सहेलियों में सबसे लंबी है। नेहा केवल एक सहेली से लंबी है। पूनम से केवल दो सहेलियाँ लंबी हैं। सभी सहेलियों में किसका कद सबसे छोटा है?

- Ans**
- 1. ट्विंकल
 - 2. नेहा
 - 3. श्रुति
 - 4. पूनम

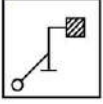
Question Type : **MCQ**
Question ID : **264330140101**
Option 1 ID : **264330548785**
Option 2 ID : **264330548784**
Option 3 ID : **264330548786**
Option 4 ID : **264330548783**
Status : **Answered**
Chosen Option : **4**

Q.11 उस विकल्प को चुनिए जो तीसरे शब्द से ठीक उसी तरह संबंधित है जिस तरह दूसरा शब्द पहले शब्द से संबंधित है।
दवासाज (Pharmacist) : दवाईयाँ :: चश्मासाज (Optician) : ?

- Ans**
- 1. चश्में (Eyeglasses)
 - 2. हौदी (Sinks)
 - 3. विधि संबंधी विषय (Legal Matters)
 - 4. विमान (Planes)

Question Type : **MCQ**
Question ID : **264330140035**
Option 1 ID : **264330548519**
Option 2 ID : **264330548520**
Option 3 ID : **264330548522**
Option 4 ID : **264330548521**
Status : **Answered**
Chosen Option : **1**

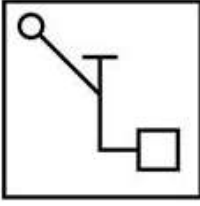
Q.12 दी गई आकृति के उस सही दर्पण प्रतिबिंब को चुनिए, जो नीचे दर्शाए गए अनुसार दर्पण को MN पर रखने पर बनेगा।



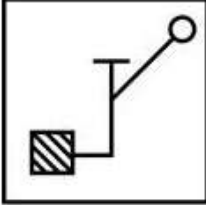
M  N

Ans

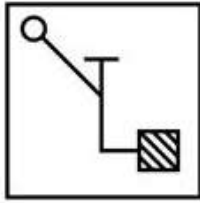
✗ 1.



✗ 2.



✓ 3.



✗ 4.



Question Type : MCQ

Question ID : 264330140051

Option 1 ID : 264330548585

Option 2 ID : 264330548586

Option 3 ID : 264330548583

Option 4 ID : 264330548584

Status : Answered

Chosen Option : 3

Q.13 एक निश्चित कूट भाषा में, 'CARE' को '27' लिखा जाता है। उस कूट भाषा में 'BLUE' को कैसे लिखा जाएगा?

Ans ✗ 1. 45

✗ 2. 50

✗ 3. 70

✓ 4. 40

Question Type : MCQ

Question ID : 264330138772

Option 1 ID : 264330543695

Option 2 ID : 264330543696

Option 3 ID : 264330543697

Option 4 ID : 264330543698

Status : Answered

Chosen Option : 4

Q.14 दी गई श्रृंखला में निम्नलिखित में से कौन-सी संख्या प्रश्न चिन्ह (?) के स्थान पर आएगी?
109, 190, 239, 264, 273, ?

- Ans 1. 274
 2. 275
 3. 276
 4. 278

Question Type : MCQ

Question ID : 264330140464

Option 1 ID : 264330550235

Option 2 ID : 264330550236

Option 3 ID : 264330550237

Option 4 ID : 264330550238

Status : Answered

Chosen Option : 1

Q.15 आठ सहेलियाँ कटरीना, करीना, माधुरी, जूही, रानी, ऐश, प्रीति और काजोल एक पंक्ति में उत्तर की ओर मुख करके बैठी हैं। करीना और काजोल पंक्ति के छोर पर बैठी हैं परंतु जरूरी नहीं कि वे इसी क्रम में बैठी हों। ऐश, जूही और माधुरी के ठीक बीच में बैठी है। ऐश के बाईं ओर केवल दो सहेलियाँ बैठी हैं। रानी, प्रीति के ठीक दाईं ओर बैठी है। केवल एक सहेली कटरीना के दाईं ओर बैठी है। बाईं ओर से पाँचवें स्थान पर कौन बैठा है?

- Ans 1. रानी
 2. माधुरी
 3. जूही
 4. प्रीति

Question Type : MCQ

Question ID : 264330140399

Option 1 ID : 264330549977

Option 2 ID : 264330549975

Option 3 ID : 264330549978

Option 4 ID : 264330549976

Status : Answered

Chosen Option : 4

Q.16 Two Statements are given followed by two conclusions numbered I and II. Assuming the statements to be true, even if they seem to be at variance with commonly known facts, decide which of the conclusions logically follow(s) from the statements.

Statements:

Some facebook are WhatsApp.

All messenger are WhatsApp.

Conclusions:

I. All WhatsApp are messenger.

II. Some facebook are messenger.

- Ans**
- 1. Only conclusion I follows.
 - 2. Only conclusion II follows.
 - 3. Both conclusions I and II follow.
 - 4. Neither conclusion I nor II follow.

Question Type : **MCQ**

Question ID : **264330140123**

Option 1 ID : **264330548871**

Option 2 ID : **264330548872**

Option 3 ID : **264330548873**

Option 4 ID : **264330548874**

Status : **Answered**

Chosen Option : **4**

Q.17 एक श्रृंखला दी गई है जिसमें एक पद लुप्त है। दिए गए विकल्पों में से उस सही विकल्प को चुनिए जो श्रृंखला को पूरा करेगा।

ARP, BUQ, CXR, DAS, ?

- Ans**
- 1. FDT
 - 2. EDU
 - 3. EET
 - 4. EDT

Question Type : **MCQ**

Question ID : **264330139568**

Option 1 ID : **264330546689**

Option 2 ID : **264330546690**

Option 3 ID : **264330546688**

Option 4 ID : **264330546687**

Status : **Answered**

Chosen Option : **4**

Q.18 एक निश्चित कूट भाषा में, 'BOOM' को 'YLLN' लिखा जाता है। उस कूट भाषा में 'MOVE' को कैसे लिखा जाएगा?

- Ans**
- 1. NLEV
 - 2. NMFV
 - 3. NLFU
 - 4. MLFV

Question Type : **MCQ**

Question ID : **264330139531**

Option 1 ID : **264330546539**

Option 2 ID : **264330546541**

Option 3 ID : **264330546540**

Option 4 ID : **264330546542**

Status : **Answered**

Chosen Option : **1**

Q.19 यदि A का अर्थ 'जोड़', B का अर्थ 'गुणा', C का अर्थ 'घटाव' और D का अर्थ 'भाग' हो, तो निम्नलिखित समीकरण का मान क्या होगा?
5 A 3 C 4 B 2 = ?

Ans 1. 3

2. -4

3. 0

4. 9

Question Type : **MCQ**

Question ID : **264330140428**

Option 1 ID : **264330550092**

Option 2 ID : **264330550094**

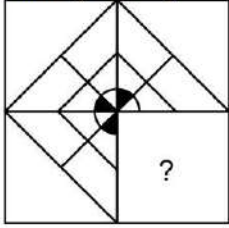
Option 3 ID : **264330550091**

Option 4 ID : **264330550093**

Status : **Answered**

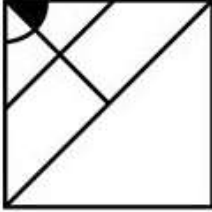
Chosen Option : **3**

Q.20 उस विकल्प आकृति को चुनिए जो नीचे दी गई आकृति में पैटर्न को पूरा करने के लिए प्रश्न चिन्ह (?) के स्थान पर आएगी। (घूर्णन की अनुमति नहीं है)।

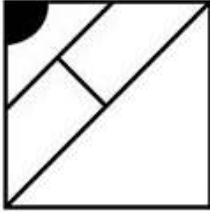


Ans

✓ 1.



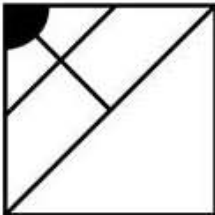
✗ 2.



✗ 3.



✗ 4.



Question Type : MCQ

Question ID : 264330140052

Option 1 ID : 264330548588

Option 2 ID : 264330548587

Option 3 ID : 264330548589

Option 4 ID : 264330548590

Status : Answered

Chosen Option : 1

Section : General Awareness

Q.1 केरल राज्य में प्रचलित प्राचीन मार्शल आर्ट को दर्शाने वाले अलंकारी रंगीन श्रृंगार और अनोखे मुखौटों के कारण किस भारतीय शास्त्रीय नृत्य को अलग पहचान मिली?

- Ans
- 1. कुचिपुड़ी
 - 2. मोहिनीअट्टम
 - 3. ओडिसी
 - 4. कथकली

Question Type : MCQ
Question ID : 264330140678
Option 1 ID : 264330551061
Option 2 ID : 264330551059
Option 3 ID : 264330551062
Option 4 ID : 264330551060
Status : Answered
Chosen Option : 4

Q.2 ऐसी बस्तियाँ जिनमें घर पास-पास बने होते हैं, _____ कहलाती हैं।

- Ans
- 1. प्रकीर्ण बस्तियाँ (Scattered settlement)
 - 2. सघन बस्तियाँ (Compact settlement)
 - 3. कतार बस्तियाँ (Line settlement)
 - 4. झंझर बस्तियाँ (Grid settlement)

Question Type : MCQ
Question ID : 264330140284
Option 1 ID : 264330549517
Option 2 ID : 264330549515
Option 3 ID : 264330549518
Option 4 ID : 264330549516
Status : Answered
Chosen Option : 2

Q.3 किस राज्य सरकार ने भारत का पहला हाथी मृत्यु लेखापरीक्षा ढाँचा (elephant death audit framework) पेश किया है?

- Ans
- 1. उड़ीसा
 - 2. आंध्रप्रदेश
 - 3. तमिलनाडु
 - 4. महाराष्ट्र

Question Type : MCQ
Question ID : 264330140676
Option 1 ID : 264330551054
Option 2 ID : 264330551053
Option 3 ID : 264330551051
Option 4 ID : 264330551052
Status : Not Answered
Chosen Option : --

Q.4 प्रतिवर्ष गुरु नानक जयंती हिंदू कैलेंडर के किस महीने की पूर्णिमा तिथि को मनाई जाती है?

- Ans
- ✓ 1. कार्तिक
 - ✗ 2. चैत्र
 - ✗ 3. वैशाख
 - ✗ 4. आषाढ़

Question Type : MCQ
Question ID : 264330138972
Option 1 ID : 264330544496
Option 2 ID : 264330544495
Option 3 ID : 264330544498
Option 4 ID : 264330544497
Status : Not Answered
Chosen Option : --

Q.5 श्वेत प्रकाश कितने रंगों का मिश्रण है?

- Ans
- ✗ 1. चार
 - ✗ 2. पाँच
 - ✗ 3. छः
 - ✓ 4. सात

Question Type : MCQ
Question ID : 264330139714
Option 1 ID : 264330547271
Option 2 ID : 264330547272
Option 3 ID : 264330547273
Option 4 ID : 264330547274
Status : Answered
Chosen Option : 4

Q.6 एम.एस. गोपालकृष्णन ने कर्नाटक और हिंदुस्तानी शास्त्रीय संगीत दोनों में महारत हासिल की। वह _____ के उस्ताद थे।

- Ans
- ✗ 1. सारंगी
 - ✓ 2. वायलिन
 - ✗ 3. सितार
 - ✗ 4. संतूर

Question Type : MCQ
Question ID : 264330138952
Option 1 ID : 264330544418
Option 2 ID : 264330544415
Option 3 ID : 264330544416
Option 4 ID : 264330544417
Status : Answered
Chosen Option : 2

Q.7 किस मंदिर को ब्लैक पैगोडा (Black Pagoda) के नाम से भी जाना जाता है?

- Ans
- 1. सोमनाथ मंदिर, सौराष्ट्र
 - 2. जगन्नाथ मंदिर, हैदराबाद
 - 3. सूर्य मंदिर, कोणार्क
 - 4. ओंकारेश्वर मंदिर, पुरी

Question Type : MCQ

Question ID : 264330140655

Option 1 ID : 264330550968

Option 2 ID : 264330550969

Option 3 ID : 264330550967

Option 4 ID : 264330550970

Status : Answered

Chosen Option : 3

Q.8 तराइन का द्वितीय युद्ध कब लड़ा गया था?

- Ans
- 1. 1175
 - 2. 1186
 - 3. 1192
 - 4. 1181

Question Type : MCQ

Question ID : 264330141059

Option 1 ID : 264330552586

Option 2 ID : 264330552583

Option 3 ID : 264330552585

Option 4 ID : 264330552584

Status : Answered

Chosen Option : 3

Q.9 1025 ई. (1025 AD) में किस तुर्की आक्रमणकारी ने सोमनाथ के मंदिर पर आक्रमण कर उस मंदिर को लूट लिया था?

- Ans
- 1. मुहम्मद बिन तुगलक
 - 2. मुहम्मद बिन कासिम
 - 3. मुहम्मद गोरी
 - 4. महमूद गजनवी

Question Type : MCQ

Question ID : 264330140665

Option 1 ID : 264330551010

Option 2 ID : 264330551007

Option 3 ID : 264330551008

Option 4 ID : 264330551009

Status : Answered

Chosen Option : 4

Q.10 निम्नलिखित में से कौन-सी पुस्तक दलाई लामा की आत्मकथा है?

- Ans
- 1. टच प्ले (Touch Play)
 - 2. रेड साड़ी (Red Sari)
 - 3. फ्रीडम इन एक्साइल (Freedom in Exile)
 - 4. प्लेइंग इट माई वे (Playing It My Way)

Question Type : MCQ
Question ID : 264330140309
Option 1 ID : 264330549618
Option 2 ID : 264330549617
Option 3 ID : 264330549615
Option 4 ID : 264330549616
Status : Answered
Chosen Option : 3

Q.11 दाचीगाम राष्ट्रीय उद्यान (Dachigam National Park) निम्नलिखित में से किस राज्य/ केन्द्र शासित प्रदेश में स्थित है?

- Ans
- 1. कर्नाटक
 - 2. गुजरात
 - 3. केरल
 - 4. जम्मू और कश्मीर

Question Type : MCQ
Question ID : 264330141053
Option 1 ID : 264330552559
Option 2 ID : 264330552561
Option 3 ID : 264330552560
Option 4 ID : 264330552562
Status : Answered
Chosen Option : 1

Q.12 निम्नलिखित में से कौन-सा एक जटिल स्थायी पादप ऊतक है?

- Ans
- 1. पार्श्व विभज्योतक (Lateral meristems)
 - 2. कॉलेन्काइमा (Collenchyma)
 - 3. जाइलम (Xylem)
 - 4. शीर्षस्थ विभज्योतक (Apical meristems)

Question Type : MCQ
Question ID : 264330140373
Option 1 ID : 264330549872
Option 2 ID : 264330549873
Option 3 ID : 264330549874
Option 4 ID : 264330549871
Status : Answered
Chosen Option : 3

Q.13 भारतीय संविधान का कौन-सा अनुच्छेद राज्य के महाधिवक्ता (Advocate-General) की बात करता है?

- Ans
- 1. 145
 - 2. 165
 - 3. 77
 - 4. 136

Question Type : MCQ
Question ID : 264330141066
Option 1 ID : 264330552612
Option 2 ID : 264330552611
Option 3 ID : 264330552614
Option 4 ID : 264330552613
Status : Answered
Chosen Option : 2

Q.14 आधिकारिक तौर पर, भारत में परलैंगिक व्यक्तियों (transgenders) पर पहली बार दर्ज किए गए आंकड़े किस जनगणना में एकत्र किए गए थे?

- Ans
- 1. 2011
 - 2. 2001
 - 3. 1991
 - 4. 1981

Question Type : MCQ
Question ID : 264330140662
Option 1 ID : 264330550995
Option 2 ID : 264330550997
Option 3 ID : 264330550996
Option 4 ID : 264330550998
Status : Answered
Chosen Option : 1

Q.15 भारत का दक्षिणी भाग _____ कटिबंध में पड़ता है।

- Ans
- 1. वर्षा
 - 2. शीतोष्ण
 - 3. ध्रुवीय
 - 4. उष्ण

Question Type : MCQ
Question ID : 264330140327
Option 1 ID : 264330549690
Option 2 ID : 264330549688
Option 3 ID : 264330549689
Option 4 ID : 264330549687
Status : Answered
Chosen Option : 4

Q.16 _____ कोष की वह न्यूनतम राशि है जो प्रत्येक बैंक को जमाओं के रूप में भारतीय रिज़र्व बैंक (RBI) के पास रखना अनिवार्य है।

Ans 1. रेपो दर (Repo rate)

2. नकद कोष अनुपात (Cash Reserve Ratio)

3.

तरलता समायोजन सुविधा (Liquidity Adjustment Facility)

4. बैंक दर (Bank rate)

Question Type : MCQ

Question ID : 264330140675

Option 1 ID : 264330551047

Option 2 ID : 264330551049

Option 3 ID : 264330551048

Option 4 ID : 264330551050

Status : Answered

Chosen Option : 2

Q.17 भारतीय संविधान के अनुसार, भारतीय संघ का मुखिया कौन होता है?

Ans 1. भारत का मुख्य न्यायाधीश

2. भारत का प्रधानमंत्री

3. भारत का राष्ट्रपति

4. भारत का उपराष्ट्रपति

Question Type : MCQ

Question ID : 264330140697

Option 1 ID : 264330551137

Option 2 ID : 264330551136

Option 3 ID : 264330551135

Option 4 ID : 264330551138

Status : Answered

Chosen Option : 3

Q.18 'द स्टार्स इन माय स्काय: दोज हू ब्राइटेंड माय फिल्म जर्नी (The Stars in My Sky: Those Who Brightened My Film Journey)' _____ की दूसरी पुस्तक है।

Ans 1. अमिताभ बच्चन

2. दिव्या दत्ता

3. नीति मोहन

4. सोनम कपूर

Question Type : MCQ

Question ID : 264330139753

Option 1 ID : 264330547429

Option 2 ID : 264330547430

Option 3 ID : 264330547427

Option 4 ID : 264330547428

Status : Answered

Chosen Option : 3

Q.19 भारत ने पहली बार _____ में ओलंपिक खेलों में भाग लिया था।

- Ans
- 1. 1908
 - 2. 1900
 - 3. 1922
 - 4. 1904

Question Type : MCQ
Question ID : 264330139751
Option 1 ID : 264330547421
Option 2 ID : 264330547419
Option 3 ID : 264330547422
Option 4 ID : 264330547420
Status : Answered
Chosen Option : 2

Q.20 क्रिकेट के खेल की शुरुआत किस देश में हुई थी?

- Ans
- 1. न्यूज़ीलैंड
 - 2. दक्षिण अफ्रीका
 - 3. भारत
 - 4. इंग्लैंड

Question Type : MCQ
Question ID : 264330140315
Option 1 ID : 264330549640
Option 2 ID : 264330549639
Option 3 ID : 264330549641
Option 4 ID : 264330549642
Status : Answered
Chosen Option : 4

Q.21 निम्नलिखित स्वतंत्रता सेनानियों में से किसे "आधुनिक भारत का जनक (Father of Modern India)" माना जाता है?

- Ans
- 1. स्वामी विवेकानंद
 - 2. बाबा दयाल दास
 - 3. केशव चंद्र सेन
 - 4. राजा राम मोहन राय

Question Type : MCQ
Question ID : 264330140717
Option 1 ID : 264330551217
Option 2 ID : 264330551218
Option 3 ID : 264330551215
Option 4 ID : 264330551216
Status : Answered
Chosen Option : 4

Q.22 मानव विकास सूचकांक (Human Development Index (HDI)) रिपोर्ट, 2021-22 के अनुसार, भारतीय उपमहाद्वीप में किस देश का प्रदर्शन सबसे अच्छा है?

- Ans
- ✓ 1. श्रीलंका
 - ✗ 2. बांग्लादेश
 - ✗ 3. भूटान
 - ✗ 4. नेपाल

Question Type : MCQ
Question ID : 264330140688
Option 1 ID : 264330551099
Option 2 ID : 264330551101
Option 3 ID : 264330551100
Option 4 ID : 264330551102
Status : Answered
Chosen Option : 3

Q.23 महासागर की औसत लवणता, _____ भाग प्रति हजार ग्राम है।

- Ans
- ✗ 1. 45
 - ✓ 2. 35
 - ✗ 3. 25
 - ✗ 4. 55

Question Type : MCQ
Question ID : 264330139713
Option 1 ID : 264330547269
Option 2 ID : 264330547268
Option 3 ID : 264330547267
Option 4 ID : 264330547270
Status : Not Answered
Chosen Option : --

Q.24 'ग्रेडेड रिस्पांस एक्शन प्लान (Graded Response Action Plan)' का मुख्य उद्देश्य क्या है?

- Ans
- ✗ 1. अवैध कॉलोनियों को वैध करना
 - ✗ 2. मलेरिया के मामलों को नियंत्रित करना
 - ✗ 3. विद्युत वाहनों को प्रचलित करना
 - ✓ 4. वायु प्रदूषण को नियंत्रित करना

Question Type : MCQ
Question ID : 264330140652
Option 1 ID : 264330550956
Option 2 ID : 264330550955
Option 3 ID : 264330550958
Option 4 ID : 264330550957
Status : Not Answered
Chosen Option : --

Q.25 निम्नलिखित में से किसने चटगांव शस्त्रागार छापा (Chittagong Armoury Raid) या चटगांव विद्रोह का नेतृत्व किया था?

Ans

- ✓ 1. सूर्य सेन
- ✗ 2. विनायक दामोदर सावरकर
- ✗ 3. रविंद्रनाथ टैगोर
- ✗ 4. सरदार वल्लभभाई पटेल

Question Type : **MCQ**
Question ID : **264330140357**
Option 1 ID : **264330549807**
Option 2 ID : **264330549808**
Option 3 ID : **264330549810**
Option 4 ID : **264330549809**
Status : **Answered**
Chosen Option : **2**

Section : English Language and Comprehension

Q.1 Fill in the blank with the most appropriate option.

I have been on this project since the first day, hence I am responsible _____ it.

Ans

- ✓ 1. for
- ✗ 2. by
- ✗ 3. to
- ✗ 4. from

Question Type : **MCQ**
Question ID : **264330135765**
Option 1 ID : **264330531942**
Option 2 ID : **264330531939**
Option 3 ID : **264330531940**
Option 4 ID : **264330531941**
Status : **Answered**
Chosen Option : **1**

Q.2 Select the word segment that substitutes (replaces) the bracketed word segment correctly and completes the sentence meaningfully. Select the option 'no correction required' if the sentence is correct as given.

Both of us felt the relationship (wasn't really gone somewhere.)

Ans

- ✗ 1. No correction required
- ✓ 2. wasn't really going anywhere
- ✗ 3. was going that direction
- ✗ 4. won't really gone that path

Question Type : **MCQ**
Question ID : **264330135718**
Option 1 ID : **264330531762**
Option 2 ID : **264330531760**
Option 3 ID : **264330531761**
Option 4 ID : **264330531759**
Status : **Answered**
Chosen Option : **2**

Q.3 Select the appropriate antonym for the underlined word.

There is a point at which fear may turn to insanity.

- Ans
- 1. Wisdom
 - 2. Lunacy
 - 3. Absurdity
 - 4. Frenzy

Question Type : **MCQ**
Question ID : **264330141214**
Option 1 ID : **264330553192**
Option 2 ID : **264330553194**
Option 3 ID : **264330553191**
Option 4 ID : **264330553193**
Status : **Answered**
Chosen Option : **1**

Q.4 Find the part of the given sentence that has an error in it. If there is no error, choose 'No error'.

I don't want to get involved in these game of gambling.

- Ans
- 1. No error
 - 2. get involved in
 - 3. I don't want to
 - 4. these game of gambling.

Question Type : **MCQ**
Question ID : **264330141167**
Option 1 ID : **264330553014**
Option 2 ID : **264330553012**
Option 3 ID : **264330553011**
Option 4 ID : **264330553013**
Status : **Answered**
Chosen Option : **4**

Q.5 Select the most appropriate antonym of the given word.

Topple

- Ans
- 1. Tumble
 - 2. Steady
 - 3. Fumble
 - 4. Plunge

Question Type : **MCQ**
Question ID : **264330136153**
Option 1 ID : **264330533413**
Option 2 ID : **264330533411**
Option 3 ID : **264330533414**
Option 4 ID : **264330533412**
Status : **Not Answered**
Chosen Option : **--**

Q.6 Choose the word that means the same as the given word.

Gala

- Ans**
- 1. Carnival
 - 2. Moist
 - 3. Mistakenly
 - 4. Funeral

Question Type : **MCQ**
Question ID : **264330135526**
Option 1 ID : **264330531007**
Option 2 ID : **264330531009**
Option 3 ID : **264330531010**
Option 4 ID : **264330531008**
Status : **Answered**
Chosen Option : **2**

Q.7 A sentence has been given with a blank to be filled with an appropriate option. Choose the correct alternative.

The survival of theatre has depended on the creation of _____ formats.

- Ans**
- 1. newly
 - 2. new
 - 3. newest
 - 4. newer

Question Type : **MCQ**
Question ID : **264330135159**
Option 1 ID : **264330529572**
Option 2 ID : **264330529571**
Option 3 ID : **264330529573**
Option 4 ID : **264330529574**
Status : **Answered**
Chosen Option : **2**

Q.8 Improve the underlined part of the sentence. Choose 'No improvement' as an answer if the sentence is grammatically correct.

When I was a kid, I used to pretend to be a knight in King Arthur's court.

- Ans**
- 1. No improvement
 - 2. used to pretending
 - 3. use to pretend
 - 4. used to pretends

Question Type : **MCQ**
Question ID : **264330141169**
Option 1 ID : **264330553022**
Option 2 ID : **264330553021**
Option 3 ID : **264330553020**
Option 4 ID : **264330553019**
Status : **Answered**
Chosen Option : **1**

Q.9 Fill in the blank with the most appropriate option.

He is quite _____ and narrow.

- Ans**
- 1. tall
 - 2. elongated
 - 3. long
 - 4. stretched

Question Type : **MCQ**
Question ID : **264330135714**
Option 1 ID : **264330531743**
Option 2 ID : **264330531745**
Option 3 ID : **264330531744**
Option 4 ID : **264330531746**
Status : **Answered**
Chosen Option : **1**

Q.10 Select the most appropriate word for the given group of words.

A small structure with one or more open sides that is used to vend merchandise

- Ans**
- 1. Kiosk
 - 2. Podium
 - 3. Vendor
 - 4. Stand

Question Type : **MCQ**
Question ID : **264330136123**
Option 1 ID : **264330533297**
Option 2 ID : **264330533296**
Option 3 ID : **264330533298**
Option 4 ID : **264330533295**
Status : **Answered**
Chosen Option : **3**

Q.11 Identify the segment that contains a grammatical error. If there is no error, select 'No error'.

The baby's faces are expressionless and/ their pupils aren't visible which gives/ the appearance of lifelessness and dreadfulness.

- Ans**
- 1. No error
 - 2. the appearance of lifelessness and dreadfulness.
 - 3. their pupils aren't visible which gives
 - 4. The baby's faces are expressionless and

Question Type : **MCQ**
Question ID : **264330136344**
Option 1 ID : **264330534150**
Option 2 ID : **264330534149**
Option 3 ID : **264330534148**
Option 4 ID : **264330534147**
Status : **Not Answered**
Chosen Option : **--**

Q.12 Select the most appropriate option to fill in the blank.

The _____ mistake these couples made was not spending enough time seriously planning for a lifetime together in marriage.

- Ans**
- 1. sporadic
 - 2. credulous
 - 3. enigmatic
 - 4. egregious

Question Type : **MCQ**
Question ID : **264330136749**
Option 1 ID : **264330535705**
Option 2 ID : **264330535706**
Option 3 ID : **264330535704**
Option 4 ID : **264330535703**
Status : **Answered**
Chosen Option : **3**

Q.13 Select the most appropriate word for the given group of words.

Partial or total loss of memory

- Ans**
- 1. Axiom
 - 2. Atheist
 - 3. Ascetic
 - 4. Amnesia

Question Type : **MCQ**
Question ID : **264330136550**
Option 1 ID : **264330534936**
Option 2 ID : **264330534935**
Option 3 ID : **264330534938**
Option 4 ID : **264330534937**
Status : **Answered**
Chosen Option : **4**

Q.14 Select the word segment that substitutes (replaces) the bracketed word segment correctly and completes the sentence meaningfully. Select the option 'no correction required' if the sentence is correct as given.
(They was standing) at one end of a very long and splendid hall.

- Ans**
- 1. They were standed
 - 2. No correction required
 - 3. They were standing
 - 4. They had been standed

Question Type : **MCQ**
Question ID : **264330136140**
Option 1 ID : **264330533364**
Option 2 ID : **264330533366**
Option 3 ID : **264330533363**
Option 4 ID : **264330533365**
Status : **Answered**
Chosen Option : **1**

Q.15 In the following question, out of the given four alternatives, select the alternative which best expresses the meaning of the Idiom/Phrase.

To get under one's skin

- Ans**
- 1. To behave foolishly
 - 2. To get nowhere
 - 3. To hide something
 - 4. To anger or irritate

Question Type : **MCQ**
Question ID : **264330135529**
Option 1 ID : **264330531019**
Option 2 ID : **264330531020**
Option 3 ID : **264330531021**
Option 4 ID : **264330531022**
Status : **Answered**
Chosen Option : **4**

Q.16 Select the appropriate synonym for the underlined word.

It can be easy to ignore people who are struggling and having a hard time.

- Ans**
- 1. gliding
 - 2. hustling
 - 3. booming
 - 4. claiming

Question Type : **MCQ**
Question ID : **264330135168**
Option 1 ID : **264330529605**
Option 2 ID : **264330529604**
Option 3 ID : **264330529606**
Option 4 ID : **264330529603**
Status : **Answered**
Chosen Option : **2**

Q.17 Four sentences are given, out of which three have spelling errors. Choose the sentence with all correctly spelt words.

- Ans**
- 1. It is demonstrably an unfair comparision.
 - 2. The whole thing is foriegn to us.
 - 3. I'm the sole victim of Mother's tyranny.
 - 4. There is a room at the extreme end of the corridor.

Question Type : **MCQ**
Question ID : **264330135868**
Option 1 ID : **264330532335**
Option 2 ID : **264330532336**
Option 3 ID : **264330532337**
Option 4 ID : **264330532338**
Status : **Answered**
Chosen Option : **4**

Q.18 Choose the incorrectly spelt word.

- Ans**
- 1. Showing
 - 2. Motive
 - 3. Conssume
 - 4. Horror

Question Type : **MCQ**
Question ID : **264330135531**
Option 1 ID : **264330531029**
Option 2 ID : **264330531028**
Option 3 ID : **264330531030**
Option 4 ID : **264330531027**
Status : **Answered**
Chosen Option : **3**

Q.19 Identify the segment that contains a grammatical error. If there is no error, select 'No error'.

Two border guards patrolling / the nearby frontier with Georgia have also / been reported missing from Friday night.

- Ans**
- 1. been reported missing from Friday night.
 - 2. the nearby frontier with Georgia have also
 - 3. No Error
 - 4. Two border guards patrolling

Question Type : **MCQ**
Question ID : **264330135819**
Option 1 ID : **264330532149**
Option 2 ID : **264330532148**
Option 3 ID : **264330532150**
Option 4 ID : **264330532147**
Status : **Answered**
Chosen Option : **3**

Q.20 Select the most appropriate meaning of the bracketed idiom in the given sentence.

Critics and Monday morning quarterbacks are (a dime a dozen), but it remains to be seen.

- Ans**
- 1. Anything that is common and easy to get
 - 2. Stuck between two very bad options
 - 3. Avoiding the main topic, not speaking directly about the issue
 - 4. To force an issue that has already ended

Question Type : **MCQ**
Question ID : **264330136504**
Option 1 ID : **264330534761**
Option 2 ID : **264330534762**
Option 3 ID : **264330534760**
Option 4 ID : **264330534759**
Status : **Answered**
Chosen Option : **1**

Comprehension:

In the following passage some of the words have been deleted. Read the passage carefully and select the correct answer for the given blanks out of the four alternatives.

Alkaline hydrolysis is rare today as a funeral (1) _____ for humans. Offered to the public for the first time just over a (2) _____ ago, it is now permitted and regulated in 26 U.S. states, and practiced (3) _____ in North America, where it remains unfamiliar to most people who (4) _____ a loved one or who are thinking about what could (5) _____ to their own bodies when they die.

SubQuestion No : 21

Q.21 Select the most appropriate option to fill in blank number 1.

- Ans
- 1. Judgement
 - 2. Proceeding
 - 3. Activity
 - 4. Practice

Question Type : MCQ
Question ID : 264330135518
Option 1 ID : 264330530976
Option 2 ID : 264330530978
Option 3 ID : 264330530975
Option 4 ID : 264330530977
Status : Answered
Chosen Option : 4

Comprehension:

In the following passage some of the words have been deleted. Read the passage carefully and select the correct answer for the given blanks out of the four alternatives.

Alkaline hydrolysis is rare today as a funeral (1) _____ for humans. Offered to the public for the first time just over a (2) _____ ago, it is now permitted and regulated in 26 U.S. states, and practiced (3) _____ in North America, where it remains unfamiliar to most people who (4) _____ a loved one or who are thinking about what could (5) _____ to their own bodies when they die.

SubQuestion No : 22

Q.22 Select the most appropriate option to fill in blank number 2.

- Ans
- 1. date
 - 2. vintage
 - 3. decade
 - 4. period

Question Type : MCQ
Question ID : 264330135519
Option 1 ID : 264330530981
Option 2 ID : 264330530982
Option 3 ID : 264330530979
Option 4 ID : 264330530980
Status : Answered
Chosen Option : 3

Comprehension:

In the following passage some of the words have been deleted. Read the passage carefully and select the correct answer for the given blanks out of the four alternatives.

Alkaline hydrolysis is rare today as a funeral (1) _____ for humans. Offered to the public for the first time just over a (2) _____ ago, it is now permitted and regulated in 26 U.S. states, and practiced (3) _____ in North America, where it remains unfamiliar to most people who (4) _____ a loved one or who are thinking about what could (5) _____ to their own bodies when they die.

SubQuestion No : 23

Q.23 Select the most appropriate option to fill in blank number 3.

Ans ✓ 1. primarily

✗ 2. manly

✗ 3. approximately

✗ 4. lastly

Question Type : **MCQ**

Question ID : **264330135520**

Option 1 ID : **264330530986**

Option 2 ID : **264330530984**

Option 3 ID : **264330530983**

Option 4 ID : **264330530985**

Status : **Answered**

Chosen Option : **2**

Comprehension:

In the following passage some of the words have been deleted. Read the passage carefully and select the correct answer for the given blanks out of the four alternatives.

Alkaline hydrolysis is rare today as a funeral (1) _____ for humans. Offered to the public for the first time just over a (2) _____ ago, it is now permitted and regulated in 26 U.S. states, and practiced (3) _____ in North America, where it remains unfamiliar to most people who (4) _____ a loved one or who are thinking about what could (5) _____ to their own bodies when they die.

SubQuestion No : 24

Q.24 Select the most appropriate option to fill in blank number 4.

Ans ✗ 1. has lost

✗ 2. lose

✓ 3. have lost

✗ 4. loose

Question Type : **MCQ**

Question ID : **264330135521**

Option 1 ID : **264330530990**

Option 2 ID : **264330530987**

Option 3 ID : **264330530989**

Option 4 ID : **264330530988**

Status : **Answered**

Chosen Option : **3**

Comprehension:

In the following passage some of the words have been deleted. Read the passage carefully and select the correct answer for the given blanks out of the four alternatives.

Alkaline hydrolysis is rare today as a funeral (1) _____ for humans. Offered to the public for the first time just over a (2) _____ ago, it is now permitted and regulated in 26 U.S. states, and practiced (3) _____ in North America, where it remains unfamiliar to most people who (4) _____ a loved one or who are thinking about what could (5) _____ to their own bodies when they die.

SubQuestion No : 25

Q.25 Select the most appropriate option to fill in blank number 5.

- Ans**
- 1. curtail
 - 2. happen
 - 3. syndicate
 - 4. gravitate

Question Type : **MCQ**

Question ID : **264330135522**

Option 1 ID : **264330530993**

Option 2 ID : **264330530994**

Option 3 ID : **264330530991**

Option 4 ID : **264330530992**

Status : **Answered**

Chosen Option : **2**

Multi Tasking Non Technical Staff and Havaladar CBIC and CBN Examination 2022

Roll Number	KD Job Updates
Candidate Name	KD Job Updates
Venue Name	iON Digital Zone Ganga Nagar Meerut
Exam Date	19/06/2023
Exam Time	3:30 PM - 5:00 PM
Subject	MTS Non Tech Havaladar CBIC and CBN Examination 2022

Section : Numerical and Mathematical Ability

Q.1 एक बेलन का वक्र पृष्ठीय क्षेत्रफल 968 cm^2 है। यदि बेलन की ऊँचाई 11 cm है, तो उसके आधार का व्यास कितना होगा?

- Ans
- 1. 22 cm
 - 2. 26 cm
 - 3. 24 cm
 - 4. 28 cm

Question Type : MCQ

Question ID : 264330135411

Option 1 ID : 264330530551

Option 2 ID : 264330530554

Option 3 ID : 264330530552

Option 4 ID : 264330530553

Status : Answered

Chosen Option : 4

Q.2 यदि 3 लड़के और 8 लड़कियाँ किसी कार्य को 6 दिनों में कर सकते हैं, और 1 लड़का और 5 लड़कियाँ उसी कार्य को 12 दिनों में पूरा कर सकते हैं, तो एक लड़के और एक लड़की की कुशलता का अनुपात ज्ञात कीजिए।

- Ans
- 1. 2:5
 - 2. 3:2
 - 3. 2:1
 - 4. 1:5

Question Type : MCQ

Question ID : 264330135406

Option 1 ID : 264330530533

Option 2 ID : 264330530532

Option 3 ID : 264330530531

Option 4 ID : 264330530534

Status : Answered

Chosen Option : 3

Q.3 रवि इंगरपुर से उदयपुर तक 200 km गाड़ी चलाता है। उसकी औसत चाल 50 kmph है। वह इंगरपुर से सुबह 8:20 बजे निकलता है। वह उदयपुर कितने बजे तक पहुँचेगा?

- Ans**
- 1. सुबह 11:30 बजे
 - 2. दोपहर 12:20 बजे
 - 3. सुबह 10 बजे
 - 4. दोपहर 1:00 बजे

Question Type : **MCQ**

Question ID : **264330135113**

Option 1 ID : **264330529388**

Option 2 ID : **264330529389**

Option 3 ID : **264330529387**

Option 4 ID : **264330529390**

Status : **Answered**

Chosen Option : **2**

Q.4 किसी धनराशि पर 20% वार्षिक दर पर दो वर्षों के लिए चक्रवृद्धि ब्याज और साधारण ब्याज के बीच का अंतर Rs. 420 है। धनराशि (Rs. में) ज्ञात कीजिए।

- Ans**
- 1. Rs. 8000
 - 2. Rs. 9000
 - 3. Rs. 10500
 - 4. Rs. 11000

Question Type : **MCQ**

Question ID : **264330138403**

Option 1 ID : **264330542222**

Option 2 ID : **264330542221**

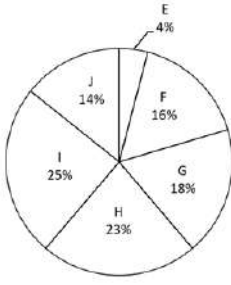
Option 3 ID : **264330542220**

Option 4 ID : **264330542219**

Status : **Answered**

Chosen Option : **3**

- Q.5 नीचे दिए गए वृत्त आलेख में छः विद्यालयों में पढ़ने वाले छात्रों की संख्या को दर्शाया गया है। इन सभी छः विद्यालयों में पढ़ने वाले छात्रों की कुल संख्या 4000 है। इनमें से किसी एक विशिष्ट विद्यालय में पढ़ने वाले छात्रों की संख्या को इन सभी छः विद्यालयों में पढ़ने वाले छात्रों की कुल संख्या के प्रतिशत के रूप में दर्शाया गया है।



वृत्तखंड F और H द्वारा बनाए गए केंद्रीय कोण और वृत्तखंड I और G द्वारा मिलकर बनाए गए केंद्रीय कोण के बीच कितना अंतर है?

- Ans
- 1. 18.7 डिग्री
 - 2. 17.4 डिग्री
 - 3. 9.6 डिग्री
 - 4. 14.4 डिग्री

Question Type : MCQ

Question ID : 264330138034

Option 1 ID : 264330540745

Option 2 ID : 264330540746

Option 3 ID : 264330540744

Option 4 ID : 264330540743

Status : Answered

Chosen Option : 4

- Q.6 यदि $(7x + y) : (7x - y) = 7 : 2$ है, तो $x : y$ का मान क्या है?

- Ans
- 1. 6 : 41
 - 2. 9 : 35
 - 3. 11 : 42
 - 4. 17 : 52

Question Type : MCQ

Question ID : 264330138023

Option 1 ID : 264330540700

Option 2 ID : 264330540701

Option 3 ID : 264330540702

Option 4 ID : 264330540699

Status : Answered

Chosen Option : 2

Q.7 एक व्यक्ति एक कुर्सी को एक निश्चित मूल्य पर बेचकर 35 प्रतिशत का लाभ अर्जित करता है। यदि वह उस कुर्सी को दोगुने मूल्य पर बेचता है, तो लाभ प्रतिशत क्या होगा?

- Ans
- 1. 180 प्रतिशत
 - 2. 170 प्रतिशत
 - 3. 150 प्रतिशत
 - 4. 70 प्रतिशत

Question Type : MCQ
Question ID : 264330138022
Option 1 ID : 264330540695
Option 2 ID : 264330540697
Option 3 ID : 264330540696
Option 4 ID : 264330540698
Status : Answered
Chosen Option : 2

Q.8 $\frac{4}{55}$, $\frac{2}{11}$ और $\frac{8}{22}$ का महत्तम समापवर्तक क्या है?

- Ans
- 1. $\frac{1}{66}$
 - 2. $\frac{2}{55}$
 - 3. $\frac{1}{55}$
 - 4. $\frac{3}{88}$

Question Type : MCQ
Question ID : 264330138030
Option 1 ID : 264330540730
Option 2 ID : 264330540728
Option 3 ID : 264330540729
Option 4 ID : 264330540727
Status : Answered
Chosen Option : 3

Q.9 $\frac{343}{49} \times \frac{45}{9}$ of $\frac{27}{15} \times \frac{256}{64}$ का मान क्या है?

- Ans
- 1. 252
 - 2. 262
 - 3. 192
 - 4. 142

Question Type : MCQ
Question ID : 264330137661
Option 1 ID : 264330539254
Option 2 ID : 264330539253
Option 3 ID : 264330539252
Option 4 ID : 264330539251
Status : Answered
Chosen Option : 1

Q.10 सरल कीजिए: $44 + 67 - 32 \div 4 + (9 + 5 + 5 + 4) - 1$

- Ans
- 1. 130
 - 2. 125
 - 3. 122
 - 4. 123

Question Type : MCQ

Question ID : 264330138746

Option 1 ID : 264330543593

Option 2 ID : 264330543592

Option 3 ID : 264330543594

Option 4 ID : 264330543591

Status : Answered

Chosen Option : 2

Q.11 तीन धावकों की चाल का अनुपात 5 : 2 : 1 है। तीनों धावकों द्वारा समान दूरी तय करने में लिए गए समय का क्रमशः अनुपात क्या होगा?

- Ans
- 1. 2 : 5 : 8
 - 2. 5 : 2 : 10
 - 3. 2 : 5 : 3
 - 4. 2 : 5 : 10

Question Type : MCQ

Question ID : 264330138024

Option 1 ID : 264330540703

Option 2 ID : 264330540704

Option 3 ID : 264330540706

Option 4 ID : 264330540705

Status : Answered

Chosen Option : 4

Q.12 14 शिक्षकों की औसत आयु 56 वर्ष है। समूह में एक नए शिक्षक को शामिल करने के बाद, औसत में 2 वर्ष की वृद्धि हो जाती है। नए शामिल हुए शिक्षक की आयु कितनी है?

- Ans
- 1. 78 वर्ष
 - 2. 84 वर्ष
 - 3. 86 वर्ष
 - 4. 72 वर्ष

Question Type : MCQ

Question ID : 264330138018

Option 1 ID : 264330540682

Option 2 ID : 264330540681

Option 3 ID : 264330540679

Option 4 ID : 264330540680

Status : Answered

Chosen Option : 3

Q.13 एक वस्तु को 25 प्रतिशत और 4 प्रतिशत की दो क्रमागत छूट के बाद Rs. 1440 में बेचा जाता है। वस्तु का अंकित मूल्य क्या है?

- Ans
- 1. Rs. 2200
 - 2. Rs. 2000
 - 3. Rs. 2100
 - 4. Rs. 2500

Question Type : MCQ
Question ID : 264330138027
Option 1 ID : 264330540716
Option 2 ID : 264330540718
Option 3 ID : 264330540715
Option 4 ID : 264330540717
Status : Answered
Chosen Option : 2

Q.14 दो संख्याओं का योग 400 है। यदि बड़ी संख्या में 16% की कमी की जाए और छोटी संख्या में 16% की वृद्धि की जाए, तो प्राप्त संख्याएँ बराबर होती हैं। छोटी संख्या ज्ञात कीजिए।

- Ans
- 1. 168
 - 2. 152
 - 3. 144
 - 4. 170

Question Type : MCQ
Question ID : 264330138396
Option 1 ID : 264330542193
Option 2 ID : 264330542192
Option 3 ID : 264330542191
Option 4 ID : 264330542194
Status : Answered
Chosen Option : 1

Q.15 रमेश 234 kmph की चाल से दौड़ता है। वह दस मिनट में कितने मीटर दौड़ता है?

- Ans
- 1. 39000 m
 - 2. 35468 m
 - 3. 36000 m
 - 4. 37560 m

Question Type : MCQ
Question ID : 264330138759
Option 1 ID : 264330543644
Option 2 ID : 264330543646
Option 3 ID : 264330543645
Option 4 ID : 264330543643
Status : Answered
Chosen Option : 1

Q.16 $(64 \div 8) - 5 + 4 \times 23 + 45 - 87$ को हल कीजिए।

- Ans
- 1. 52
 - 2. 51
 - 3. 54
 - 4. 53

Question Type : MCQ
Question ID : 264330133737
Option 1 ID : 264330523974
Option 2 ID : 264330523973
Option 3 ID : 264330523971
Option 4 ID : 264330523972
Status : Answered
Chosen Option : 4

Q.17 एक रेलगाड़ी एक स्थान A से सुबह 10:00 बजे चलती है और एक दूसरे स्थान B पर उसी दिन शाम 5:30 बजे पहुंचती है। यदि रेलगाड़ी की चाल 80 km/hr है, तो रेलगाड़ी द्वारा तय की गई दूरी कितनी होगी?

- Ans
- 1. 450 km
 - 2. 600 km
 - 3. 650 km
 - 4. 550 km

Question Type : MCQ
Question ID : 264330138017
Option 1 ID : 264330540677
Option 2 ID : 264330540675
Option 3 ID : 264330540678
Option 4 ID : 264330540676
Status : Answered
Chosen Option : 2

Q.18 एक शहर की वर्तमान जनसंख्या 68,000 है। पहले वर्ष में जनसंख्या में 10 प्रतिशत की वृद्धि होती है और दूसरे वर्ष में 5% की गिरावट आती है। 2 वर्ष बाद शहर की जनसंख्या ज्ञात कीजिए।

- Ans
- 1. 71,060
 - 2. 68,500
 - 3. 69,000
 - 4. 70,100

Question Type : MCQ
Question ID : 264330138424
Option 1 ID : 264330542303
Option 2 ID : 264330542304
Option 3 ID : 264330542306
Option 4 ID : 264330542305
Status : Answered
Chosen Option : 1

Q.19 दी गई तालिका में विद्यालयों में लड़कों और लड़कियों की संख्या को दर्शाया गया है। किस विद्यालय में सबसे कम छात्र हैं?

School	Number of boys	Number of girls
1	44	56
2	34	45
3	47	34
4	65	54
5	45	32

School = विद्यालय, Number of boys = लड़कों की संख्या, Number of girls = लड़कियों की संख्या

- Ans
- ✓ 1. 5
 - ✗ 2. 1
 - ✗ 3. 3
 - ✗ 4. 2

Question Type : MCQ

Question ID : 264330133751

Option 1 ID : 264330524029

Option 2 ID : 264330524030

Option 3 ID : 264330524028

Option 4 ID : 264330524027

Status : Answered

Chosen Option : 1

Q.20 100 नोटबुक बेचकर, एक दुकानदार 20 नोटबुक के विक्रय मूल्य के बराबर लाभ अर्जित करता है। उसका लाभ प्रतिशत क्या है?

- Ans
- ✗ 1. 50.4%
 - ✗ 2. 62.4%
 - ✗ 3. 22.5%
 - ✓ 4. 25%

Question Type : MCQ

Question ID : 264330138752

Option 1 ID : 264330543616

Option 2 ID : 264330543617

Option 3 ID : 264330543618

Option 4 ID : 264330543615

Status : Answered

Chosen Option : 4

Section : Reasoning Ability and Problem Solving

Q.1 सात लोगों K, B, M, C, R, P, और S का कद अलग-अलग है। C, K से लंबा है। B का कद M से छोटा है। P का कद M और B से छोटा है। C, P से लंबा नहीं है। S, K से लंबा नहीं है। M केवल एक व्यक्ति से कद में छोटा है। सबसे छोटे कद वाला व्यक्ति कौन है?

- Ans
- ✓ 1. S
 - ✗ 2. B
 - ✗ 3. K
 - ✗ 4. P

Question Type : MCQ

Question ID : 264330137818

Option 1 ID : 264330539879

Option 2 ID : 264330539882

Option 3 ID : 264330539880

Option 4 ID : 264330539881

Status : Answered

Chosen Option : 1

Q.2 दिए गए पैटर्न का ध्यानपूर्वक अध्ययन कीजिए और उस संख्या को चुनिए जो इसमें प्रश्न चिन्ह (?) के स्थान पर आ सकती है?

प्रथम पंक्ति- 7, 9, 63

द्वितीय पंक्ति- 6, 8, 48

तृतीय पंक्ति- 5, 7, ?

- Ans
- ✓ 1. 35
 - ✗ 2. 49
 - ✗ 3. 28
 - ✗ 4. 42

Question Type : MCQ

Question ID : 264330137824

Option 1 ID : 264330539903

Option 2 ID : 264330539905

Option 3 ID : 264330539906

Option 4 ID : 264330539904

Status : Answered

Chosen Option : 1

Q.3 निम्नलिखित प्रश्न में, दी गई श्रृंखला में लुप्त संख्या को चुनिए।

0, 22, 44, 66, ?, 110

- Ans
- ✓ 1. 88
 - ✗ 2. 94
 - ✗ 3. 99
 - ✗ 4. 90

Question Type : MCQ

Question ID : 264330138510

Option 1 ID : 264330542647

Option 2 ID : 264330542650

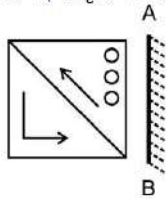
Option 3 ID : 264330542649

Option 4 ID : 264330542648

Status : Answered

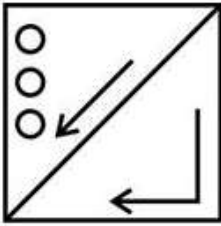
Chosen Option : 1

Q.4 दी गई आकृति के उस सही दर्पण प्रतिबिंब को चुनिए जो नीचे दर्शाए गए अनुसार दर्पण को AB पर रखने पर बनेगा।

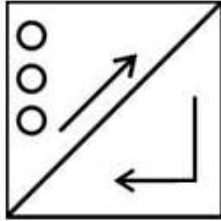


Ans

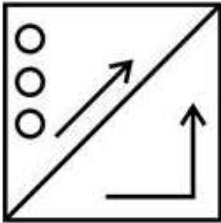
✗ 1.



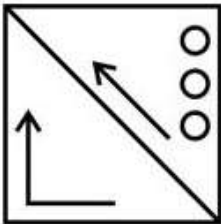
✓ 2.



✗ 3.



✗ 4.



Question Type : MCQ

Question ID : 264330133464

Option 1 ID : 264330522888

Option 2 ID : 264330522890

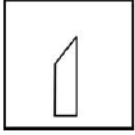
Option 3 ID : 264330522889

Option 4 ID : 264330522887

Status : Answered

Chosen Option : 2

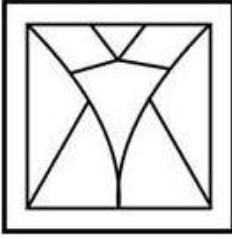
Q.5 उस विकल्प आकृति को चुनिए जिसमें दी गई आकृति (X) उसके भाग के रूप में निहित है (पूर्ण की अनुमति नहीं है)।



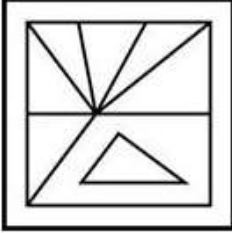
X

Ans

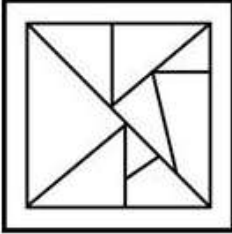
✗ 1.



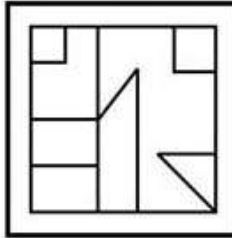
✗ 2.



✗ 3.



✓ 4.



Question Type : MCQ

Question ID : 264330133463

Option 1 ID : 264330522884

Option 2 ID : 264330522885

Option 3 ID : 264330522883

Option 4 ID : 264330522886

Status : Answered

Chosen Option : 4

Q.6 राम, श्याम, पंकज, तिलक और गौरव एक सीधी रेखा में दक्षिण की ओर मुख करके बैठे हैं। तिलक और गौरव अंतिम छोरों पर बैठे हैं। राम, गौरव के ठीक बाईं ओर और पंकज के ठीक दाईं ओर बैठा है। तिलक के ठीक दाईं ओर कौन बैठा है?

- Ans
- 1. पंकज
 - 2. राम
 - 3. श्याम
 - 4. गौरव

Question Type : MCQ

Question ID : 264330137817

Option 1 ID : 264330539876

Option 2 ID : 264330539877

Option 3 ID : 264330539875

Option 4 ID : 264330539878

Status : Answered

Chosen Option : 3

Q.7 दी गई श्रृंखला में निम्नलिखित में से कौन-सी संख्या प्रश्न चिन्ह (?) के स्थान पर आएगी?
64, 32, 96, 48, 144, 72, 216, ?

- Ans
- 1. 104
 - 2. 112
 - 3. 108
 - 4. 114

Question Type : MCQ

Question ID : 264330137822

Option 1 ID : 264330539898

Option 2 ID : 264330539895

Option 3 ID : 264330539897

Option 4 ID : 264330539896

Status : Answered

Chosen Option : 3

Q.8 एक निश्चित कूट भाषा में, 'JACKET' को 'EAKCTJ' लिखा जाता है। उस कूट भाषा में 'BLAZER' को कैसे लिखा जाएगा?

- Ans
- 1. ELZARB
 - 2. EZLARB
 - 3. ELZRAB
 - 4. ELRABZ

Question Type : MCQ

Question ID : 264330135003

Option 1 ID : 264330528949

Option 2 ID : 264330528947

Option 3 ID : 264330528948

Option 4 ID : 264330528950

Status : Answered

Chosen Option : 1

Q.9 दी गई दो संख्याओं को आपस में बदलने पर निम्नलिखित में से कौन-सा समीकरण सही नहीं होगा?

9 और 7

I. $7 \times 3 - 8 \div 4 + 9 = 32$

II. $7 - 9 \times 2 + 6 \div 3 = -3$

Ans 1. केवल I

2. I और II दोनों

3. केवल II

4. न तो I और न ही II

Question Type : MCQ

Question ID : 264330138536

Option 1 ID : 264330542751

Option 2 ID : 264330542753

Option 3 ID : 264330542752

Option 4 ID : 264330542754

Status : Answered

Chosen Option : 4

Q.10 तीन कथन दिए गए हैं और दो निष्कर्ष I और II दिए गए हैं। कथनों को सत्य मानते हुए, चाहे वे सामान्यतः ज्ञात तथ्यों से अलग प्रतीत होते हों, निश्चय कीजिए कि कौन-सा निष्कर्ष तार्किक रूप से कथनों के अनुसार है।
कथन:

कुछ तोलिये, चमकदार हैं।

कुछ चमकदार, चमकीले हैं।

सभी चमकीले, छोटे हैं।

निष्कर्ष:

I. कुछ छोटे, चमकीले हैं।

II. कुछ छोटे, चमकदार हैं।

Ans 1. सिर्फ निष्कर्ष II कथनों के अनुसार है

2. दोनों निष्कर्ष I और II कथनों के अनुसार हैं

3. निष्कर्ष I और II में से कोई भी कथनों के अनुसार नहीं है

4. सिर्फ निष्कर्ष I कथनों के अनुसार है

Question Type : MCQ

Question ID : 264330137820

Option 1 ID : 264330539888

Option 2 ID : 264330539889

Option 3 ID : 264330539890

Option 4 ID : 264330539887

Status : Answered

Chosen Option : 2

Q.11 दो कथन दिए गए हैं और दो निष्कर्ष I और II दिए गए हैं। कथनों को सत्य मानते हुए, चाहे वे सामान्यतः ज्ञात तथ्यों से अलग प्रतीत होते हों, निश्चय कीजिए कि कौन-सा निष्कर्ष तार्किक रूप से कथनों के अनुसार है।
कथन:
कुछ कार, तेज़ हैं।
कुछ तेज़, धीमे हैं।
निष्कर्ष:
I. कुछ कार, धीमी नहीं हैं।
II. कुछ धीमें, तेज़ हैं।

- Ans**
- ✓ 1. सिर्फ निष्कर्ष II कथनों के अनुसार है
 - ✗ 2. सिर्फ निष्कर्ष I कथनों के अनुसार है
 - ✗ 3. निष्कर्ष I और II में से कोई भी कथनों के अनुसार नहीं है
 - ✗ 4. दोनों निष्कर्ष I और II कथनों के अनुसार हैं

Question Type : **MCQ**
Question ID : **264330137819**
Option 1 ID : **264330539884**
Option 2 ID : **264330539883**
Option 3 ID : **264330539886**
Option 4 ID : **264330539885**
Status : **Answered**
Chosen Option : 1

Q.12 प्रीति, रानी, सृति, तानिया, उरुषा, और विधि एक परिधि में केंद्र की ओर मुख करके बैठी हैं। विधि, सृति के बाईं ओर से दूसरे स्थान पर बैठी है, और तानिया तथा उरुषा के बीच में बैठी है। सृति, रानी या तानिया की पड़ोसी नहीं है। प्रीति के ठीक दाईं ओर कौन बैठा है?

- Ans**
- ✗ 1. तानिया
 - ✗ 2. सृति
 - ✓ 3. रानी
 - ✗ 4. विधि

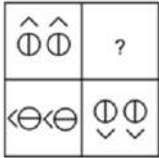
Question Type : **MCQ**
Question ID : **264330137816**
Option 1 ID : **264330539874**
Option 2 ID : **264330539872**
Option 3 ID : **264330539873**
Option 4 ID : **264330539871**
Status : **Answered**
Chosen Option : 3

Q.13 एक निश्चित कूट भाषा में, 'JOURNEY' को 'EJNORUY' लिखा जाता है। उस कूट भाषा में 'MEDICAL' को कैसे लिखा जाएगा?

- Ans 1. ACDEILM
 2. ADCLEMI
 3. ADCLIEM
 4. ACDIELM

Question Type : MCQ
 Question ID : 264330135026
 Option 1 ID : 264330529041
 Option 2 ID : 264330529039
 Option 3 ID : 264330529040
 Option 4 ID : 264330529042
 Status : Answered
 Chosen Option : 1

Q.14 उस विकल्प आकृति को चुनिए जो नीचे दी गई आकृति में पैटर्न को पूरा करने के लिए प्रश्न चिन्ह (?) के स्थान पर आएगी। (पूर्णांक की अनुमति नहीं है)



Ans

1. $\odot>\odot>$
 2. $\langle\ominus\ominus\rangle$
 3. $\downarrow\downarrow$
 4. $\ominus>\ominus>$

Question Type : MCQ
 Question ID : 264330137829
 Option 1 ID : 264330539923
 Option 2 ID : 264330539924
 Option 3 ID : 264330539925
 Option 4 ID : 264330539926
 Status : Answered
 Chosen Option : 4

Q.15 Select the option that is related to the third word in the same way as the second word is related to the first word.

Marry : Divorce :: Native : ?

- Ans
- 1. Hometown
 - 2. Indoor
 - 3. Foreign
 - 4. Country

Question Type : MCQ

Question ID : 264330137811

Option 1 ID : 264330539851

Option 2 ID : 264330539853

Option 3 ID : 264330539852

Option 4 ID : 264330539854

Status : Answered

Chosen Option : 4

Q.16 एक निश्चित कूट भाषा में, 'BMWO' को '2546' लिखा जाता है, 'WANB' को '6751' लिखा जाता है, 'MOST' को '8249' लिखा जाता है। उस कूट भाषा में 'M' को कैसे लिखा जाएगा?

- Ans
- 1. 7
 - 2. 5
 - 3. 2
 - 4. 6

Question Type : MCQ

Question ID : 264330138587

Option 1 ID : 264330542958

Option 2 ID : 264330542957

Option 3 ID : 264330542955

Option 4 ID : 264330542956

Status : Answered

Chosen Option : 3

Q.17 दिए गए समीकरण को सही करने के लिए किन दो चिन्हों को आपस में बदला जाना चाहिए?

$$9 \div 3 + 7 = 4 - 6$$

- Ans
- 1. \div और $-$
 - 2. $+$ और $-$
 - 3. \div और $=$
 - 4. $-$ और $=$

Question Type : MCQ

Question ID : 264330137825

Option 1 ID : 264330539908

Option 2 ID : 264330539909

Option 3 ID : 264330539910

Option 4 ID : 264330539907

Status : Answered

Chosen Option : 4

Q.18 उस विकल्प को चुनिए जो पाँचवी संख्या से ठीक उसी प्रकार संबंधित है जिस प्रकार दूसरी संख्या पहली संख्या से संबंधित है और चौथी संख्या तीसरी संख्या से संबंधित है।

4 : 25 :: 6 : 49 :: 8 : ?

- Ans
- 1. 81
 - 2. 82
 - 3. 85
 - 4. 80

Question Type : MCQ
Question ID : 264330138512
Option 1 ID : 264330542656
Option 2 ID : 264330542657
Option 3 ID : 264330542658
Option 4 ID : 264330542655
Status : Answered
Chosen Option : 1

Q.19 उस विकल्प को चुनिए जो तीसरे अक्षर-समूह से ठीक उसी तरह संबंधित है जिस तरह दूसरा अक्षर-समूह पहले अक्षर-समूह से संबंधित है।
GR : KV :: DL : ?

- Ans
- 1. GP
 - 2. HS
 - 3. HP
 - 4. HQ

Question Type : MCQ
Question ID : 264330137810
Option 1 ID : 264330539848
Option 2 ID : 264330539850
Option 3 ID : 264330539849
Option 4 ID : 264330539847
Status : Answered
Chosen Option : 3

Q.20 दी गई श्रृंखला में निम्नलिखित में से कौन-सा अक्षर-समूह प्रश्न चिन्ह (?) के स्थान पर आएगा?
SE, VI, YM, BQ, EU, ?

- Ans
- 1. HY
 - 2. JY
 - 3. GY
 - 4. HX

Question Type : MCQ
Question ID : 264330137808
Option 1 ID : 264330539839
Option 2 ID : 264330539840
Option 3 ID : 264330539842
Option 4 ID : 264330539841
Status : Answered
Chosen Option : 1

Q.1 अक्टूबर 2022 की स्थिति के अनुसार, उच्च न्यायालय के न्यायाधीश के रूप में नियुक्ति के लिए ऊपरी आयु सीमा क्या है?

- Ans
- ✓ 1. 62 वर्ष
 - ✗ 2. 55 वर्ष
 - ✗ 3. 57 वर्ष
 - ✗ 4. 60 वर्ष

Question Type : MCQ
Question ID : 264330137940
Option 1 ID : 264330540370
Option 2 ID : 264330540367
Option 3 ID : 264330540369
Option 4 ID : 264330540368
Status : Answered
Chosen Option : 1

Q.2 भारतीय संविधान में "गणतंत्र" की अवधारणा निम्नलिखित में से किस देश के संविधान से ली गई है?

- Ans
- ✗ 1. जर्मनी
 - ✗ 2. जापान
 - ✓ 3. फ्रांस
 - ✗ 4. ऑस्ट्रेलिया

Question Type : MCQ
Question ID : 264330137939
Option 1 ID : 264330540364
Option 2 ID : 264330540366
Option 3 ID : 264330540363
Option 4 ID : 264330540365
Status : Answered
Chosen Option : 3

Q.3 बांझपन निम्नलिखित में से किस विटामिन की कमी से होता है?

- Ans
- ✓ 1. E
 - ✗ 2. D
 - ✗ 3. B1
 - ✗ 4. K

Question Type : MCQ
Question ID : 264330137925
Option 1 ID : 264330540309
Option 2 ID : 264330540308
Option 3 ID : 264330540307
Option 4 ID : 264330540310
Status : Answered
Chosen Option : 1

Q.4 निम्नलिखित में से कौन-सी मिशेल ओबामा (Michelle Obama) की आत्मकथा है?

Ans 1. बिकमिंग (Becoming)

2. अवर हाउस इज़ ऑन फ़ायर (Our House is on Fire)

3. मी (Me)

4. माय लाइफ़ (My Life)

Question Type : MCQ

Question ID : 264330134711

Option 1 ID : 264330527802

Option 2 ID : 264330527800

Option 3 ID : 264330527801

Option 4 ID : 264330527799

Status : Answered

Chosen Option : 1

Q.5 आज़ादी से पहले के भारत में, गरीबी रेखा की अवधारणा पर चर्चा करने वाले पहले व्यक्ति कौन थे?

Ans 1. दादाभाई नौरोजी

2. महादेव गोविंद रानाडे

3. बी.आर. अम्बेडकर

4. एम. के गांधी

Question Type : MCQ

Question ID : 264330133876

Option 1 ID : 264330524528

Option 2 ID : 264330524527

Option 3 ID : 264330524530

Option 4 ID : 264330524529

Status : Answered

Chosen Option : 1

Q.6 भारत के राष्ट्रपति द्वारा "राज्य सभा" में कितने सदस्यों को नामित किया जा सकता है?

Ans 1. 12

2. 15

3. 9

4. 6

Question Type : MCQ

Question ID : 264330138307

Option 1 ID : 264330541837

Option 2 ID : 264330541838

Option 3 ID : 264330541836

Option 4 ID : 264330541835

Status : Answered

Chosen Option : 1

Q.7 चीनी को अल्कोहल में बदलने की प्रक्रिया को _____ के रूप में जाना जाता है।

- Ans
- 1. अनाच्छादन (Denudation)
 - 2. अंतःस्यंदन (Infiltration)
 - 3. किण्वन (Fermentation)
 - 4. विखंडन (Fragmentation)

Question Type : MCQ

Question ID : 264330138285

Option 1 ID : 264330541750

Option 2 ID : 264330541749

Option 3 ID : 264330541747

Option 4 ID : 264330541748

Status : Answered

Chosen Option : 3

Q.8 निम्नलिखित लोक नृत्यों में से कौन-सा राजस्थान से संबंधित है?

- Ans
- 1. रऊफ (Rouf)
 - 2. लावणी
 - 3. कालबेलिया
 - 4. बिहु

Question Type : MCQ

Question ID : 264330137921

Option 1 ID : 264330540294

Option 2 ID : 264330540292

Option 3 ID : 264330540293

Option 4 ID : 264330540291

Status : Answered

Chosen Option : 3

Q.9 निम्नलिखित में से कौन 'पंडित बिरजू महाराज' की एक शिष्या थीं जिन्हें वर्ष 1992 में 'पद्म श्री' और वर्ष 1999-2000 में 'संगीत नाटक अकादमी पुरस्कार' से सम्मानित किया गया था?

- Ans
- 1. मृणालिनी साराभाई
 - 2. यामिनी कृष्णमूर्ति (Yamini Krishnamurthy)
 - 3. शोवना नारायण
 - 4. कलामंडलम कल्याणिकुट्टी अम्मा (Kalamandalam Kalyanikutty Amma)

Question Type : MCQ

Question ID : 264330134713

Option 1 ID : 264330527809

Option 2 ID : 264330527807

Option 3 ID : 264330527810

Option 4 ID : 264330527808

Status : Answered

Chosen Option : 3

Q.10 एशियाई खेल 2022 किस देश में आयोजित किए गए थे?

- Ans
- 1. सिंगापुर
 - 2. भारत
 - 3. चीन
 - 4. जापान

Question Type : MCQ
Question ID : 264330138275
Option 1 ID : 264330541710
Option 2 ID : 264330541707
Option 3 ID : 264330541709
Option 4 ID : 264330541708
Status : Answered
Chosen Option : 3

Q.11 निम्नलिखित में से कौन-सा त्योहार केरल में मनाया जाता है?

- Ans
- 1. बैसाखी (Baisakhi)
 - 2. विशु (Vishu)
 - 3. अंबुबाची (Ambubachi)
 - 4. बोनालु (Bonalu)

Question Type : MCQ
Question ID : 264330133909
Option 1 ID : 264330524662
Option 2 ID : 264330524661
Option 3 ID : 264330524660
Option 4 ID : 264330524659
Status : Answered
Chosen Option : 2

Q.12 _____ अलकनंदा और धौलीगंगा नदी के संगम का स्थान है।

- Ans
- 1. नंदप्रयाग
 - 2. विष्णुप्रयाग
 - 3. कर्णप्रयाग
 - 4. रुद्रप्रयाग

Question Type : MCQ
Question ID : 264330137929
Option 1 ID : 264330540324
Option 2 ID : 264330540323
Option 3 ID : 264330540325
Option 4 ID : 264330540326
Status : Answered
Chosen Option : 1

Q.13 अखिल भारतीय मुस्लिम लीग की स्थापना किस वर्ष हुई थी?

- Ans
- 1. 1885
 - 2. 1906
 - 3. 1920
 - 4. 1911

Question Type : MCQ
Question ID : 264330133922
Option 1 ID : 264330524711
Option 2 ID : 264330524712
Option 3 ID : 264330524714
Option 4 ID : 264330524713
Status : Answered
Chosen Option : 3

Q.14 _____ राज्य सरकार ने नवंबर 2022 में "प्रौद्योगिकी हस्तांतरण योजना (Technology Transfer Scheme)" की शुरुआत की है।

- Ans
- 1. आंध्रप्रदेश
 - 2. तमिलनाडु
 - 3. केरल
 - 4. कर्नाटक

Question Type : MCQ
Question ID : 264330137919
Option 1 ID : 264330540285
Option 2 ID : 264330540286
Option 3 ID : 264330540283
Option 4 ID : 264330540284
Status : Not Answered
Chosen Option : --

Q.15 मध्यम अवधि में अर्थव्यवस्था में तरलता को प्रभावित करने के उद्देश्य से आरबीआई (RBI) द्वारा खुले बाजार में सरकारी प्रतिभूतियों की बिक्री और खरीद _____ कहलाती है।

- Ans
- 1. तरलता समायोजन सुविधा (Liquidity Adjustment Facility)
 - 2. सीमांत स्थायी सुविधा (Marginal Standing Facility)
 - 3. क्रेडिट की उच्चतम सीमा (Credit Ceiling)
 - 4. खुला बाजार परिचालन (Open Market Operations)

Question Type : MCQ
Question ID : 264330134718
Option 1 ID : 264330527830
Option 2 ID : 264330527827
Option 3 ID : 264330527829
Option 4 ID : 264330527828
Status : Answered
Chosen Option : 1

Q.16 निम्नलिखित में से कौन-सा आधुनिक भारतीय भाषाओं के वर्गीकरण में एक परिवार नहीं है?

- Ans
- ✗ 1. चीन - तिब्बती (Sino - Tibetan)
 - ✗ 2. भारतीय - यूरोपीय (Indo - European)
 - ✓ 3. भारतीय-अफ्रीकी (Indo - African)
 - ✗ 4. द्रविड़ (Dravidian)

Question Type : MCQ

Question ID : 264330138340

Option 1 ID : 264330541968

Option 2 ID : 264330541967

Option 3 ID : 264330541970

Option 4 ID : 264330541969

Status : Answered

Chosen Option : 4

Q.17 निम्नलिखित में से किस राज्य ने ट्रेक एशिया कप 2022 साइकिलिंग टूर्नामेंट (Track Asia Cup 2022 Cycling Tournament) की मेजबानी की थी?

- Ans
- ✓ 1. केरल
 - ✗ 2. महाराष्ट्र
 - ✗ 3. कर्नाटक
 - ✗ 4. पश्चिम बंगाल

Question Type : MCQ

Question ID : 264330137941

Option 1 ID : 264330540371

Option 2 ID : 264330540374

Option 3 ID : 264330540372

Option 4 ID : 264330540373

Status : Not Answered

Chosen Option : --

Q.18 संयुक्त राष्ट्र द्वारा पीने, धुलाई करने, खाना पकाने और उचित स्वच्छता बनाए रखने के लिए आवश्यक न्यूनतम पानी की मात्रा, प्रति व्यक्ति प्रति दिन _____ लीटर अनुशंसित की गई है।

- Ans
- ✗ 1. 40
 - ✗ 2. 60
 - ✓ 3. 50
 - ✗ 4. 70

Question Type : MCQ

Question ID : 264330138286

Option 1 ID : 264330541751

Option 2 ID : 264330541753

Option 3 ID : 264330541752

Option 4 ID : 264330541754

Status : Answered

Chosen Option : 3

Q.19 भारत में पहली भूमिगत रेलवे कहाँ शुरू की गई थी?

- Ans
- ✓ 1. कोलकाता
 - ✗ 2. मुंबई
 - ✗ 3. पुणे
 - ✗ 4. चेन्नई

Question Type : MCQ

Question ID : 264330134703

Option 1 ID : 264330527770

Option 2 ID : 264330527769

Option 3 ID : 264330527768

Option 4 ID : 264330527767

Status : Answered

Chosen Option : 1

Q.20 तंजावुर में बृहदेश्वर मंदिर का निर्माण _____ ने करवाया था।

- Ans
- ✗ 1. राजेंद्र प्रथम
 - ✗ 2. विजयालय
 - ✓ 3. राजराज प्रथम
 - ✗ 4. आदित्य प्रथम

Question Type : MCQ

Question ID : 264330138298

Option 1 ID : 264330541800

Option 2 ID : 264330541801

Option 3 ID : 264330541799

Option 4 ID : 264330541802

Status : Answered

Chosen Option : 1

Q.21 Materials that allow electric current to pass through them are called _____.

- Ans
- ✗ 1. alternator
 - ✓ 2. conductors
 - ✗ 3. insulators
 - ✗ 4. capacitor

Question Type : MCQ

Question ID : 264330138287

Option 1 ID : 264330541757

Option 2 ID : 264330541755

Option 3 ID : 264330541756

Option 4 ID : 264330541758

Status : Answered

Chosen Option : 2

Q.22 ईरान के शासक नादिरशाह ने _____ में दिल्ली शहर को लूटा।

- Ans
- ✓ 1. 1739
 - ✗ 2. 1761
 - ✗ 3. 1771
 - ✗ 4. 1748

Question Type : MCQ
Question ID : 264330138293
Option 1 ID : 264330541779
Option 2 ID : 264330541781
Option 3 ID : 264330541782
Option 4 ID : 264330541780
Status : Answered
Chosen Option : 1

Q.23 उस्ताद अमजद अली खान का संबंध निम्नलिखित में से किस वाद्य यंत्र से है?

- Ans
- ✓ 1. सरोद
 - ✗ 2. सितार
 - ✗ 3. सारंगी
 - ✗ 4. वीणा

Question Type : MCQ
Question ID : 264330137937
Option 1 ID : 264330540355
Option 2 ID : 264330540357
Option 3 ID : 264330540358
Option 4 ID : 264330540356
Status : Answered
Chosen Option : 1

Q.24 2022 तक, कौन-सा भारतीय राज्य बांग्लादेश के साथ सीमा साझा नहीं करता है?

- Ans
- ✗ 1. मेघालय
 - ✓ 2. बिहार
 - ✗ 3. पश्चिम बंगाल
 - ✗ 4. मिजोरम

Question Type : MCQ
Question ID : 264330133919
Option 1 ID : 264330524702
Option 2 ID : 264330524699
Option 3 ID : 264330524701
Option 4 ID : 264330524700
Status : Answered
Chosen Option : 2

Q.25 सहायक संधि नामक प्रणाली को वर्ष 1798 में _____ ने तैयार किया था।

- Ans
- ✓ 1. लॉर्ड वेलेज़ली (Lord Wellesley)
 - ✗ 2. लॉर्ड बेंटिक (Lord Bentick)
 - ✗ 3. लॉर्ड हेस्टिंग्स (Lord Hastings)
 - ✗ 4. लॉर्ड डलहौज़ी (Lord Dalhousie)

Question Type : MCQ
Question ID : 264330138319
Option 1 ID : 264330541883
Option 2 ID : 264330541886
Option 3 ID : 264330541885
Option 4 ID : 264330541884
Status : Answered
Chosen Option : 1

Section : English Language and Comprehension

Q.1 Select the word segment that substitutes (replaces) the bracketed word segment correctly and completes the sentence meaningfully. Select the option 'no correction required' if the sentence is correct as given.

It was a (easement to be far away) from that malicious old labyrinth with its stares and gossip.

- Ans
- ✗ 1. help to be away
 - ✓ 2. relief to be away
 - ✗ 3. No correction required
 - ✗ 4. rest to be far

Question Type : MCQ
Question ID : 264330136389
Option 1 ID : 264330534323
Option 2 ID : 264330534324
Option 3 ID : 264330534326
Option 4 ID : 264330534325
Status : Answered
Chosen Option : 2

Q.2 Identify the segment that contains a grammatical error. If there is no error, select 'No error'.

None of them, apart from Rohan / and Shilpa, had heard Mohan talk / about what happens that night.

- Ans
- ✓ 1. about what happens that night.
 - ✗ 2. and Shilpa, had heard Mohan talk
 - ✗ 3. No error
 - ✗ 4. None of them, apart from Rohan

Question Type : MCQ
Question ID : 264330136691
Option 1 ID : 264330535481
Option 2 ID : 264330535480
Option 3 ID : 264330535482
Option 4 ID : 264330535479
Status : Answered
Chosen Option : 1

Q.3 Select the most appropriate antonym to substitute the bracketed word in the given sentence.

There is an unhealthy tendency to (subjugate) films to the dictates of raising public awareness.

- Ans**
- 1. Colonize
 - 2. Liberate
 - 3. Modest
 - 4. Vanquish

Question Type : **MCQ**
Question ID : **264330136310**
Option 1 ID : **264330534018**
Option 2 ID : **264330534016**
Option 3 ID : **264330534015**
Option 4 ID : **264330534017**
Status : **Answered**
Chosen Option : **2**

Q.4 Improve the underlined part of the sentence. Choose 'No improvement' as an answer if the sentence is grammatically correct.

I like to hang my laundry outside in the suns to dry.

- Ans**
- 1. sun to dries
 - 2. No improvement
 - 3. sun to dry
 - 4. sun to dried

Question Type : **MCQ**
Question ID : **264330134801**
Option 1 ID : **264330528149**
Option 2 ID : **264330528150**
Option 3 ID : **264330528148**
Option 4 ID : **264330528147**
Status : **Answered**
Chosen Option : **3**

Q.5 Select the correctly spelt word.

- Ans**
- 1. Purpos
 - 2. Porpos
 - 3. Purpose
 - 4. Propuse

Question Type : **MCQ**
Question ID : **264330136313**
Option 1 ID : **264330534030**
Option 2 ID : **264330534029**
Option 3 ID : **264330534027**
Option 4 ID : **264330534028**
Status : **Answered**
Chosen Option : **3**

Q.6 Select the most appropriate meaning of the given idiom.

A broth of a boy

- Ans
- 1. A lively, energetic young person
 - 2. To behave foolishly
 - 3. To have specific food choices
 - 4. Not attached to someone

Question Type : **MCQ**
Question ID : **264330136659**
Option 1 ID : **264330535358**
Option 2 ID : **264330535355**
Option 3 ID : **264330535356**
Option 4 ID : **264330535357**
Status : **Not Answered**
Chosen Option : --

Q.7 Select the most appropriate synonym of the given word.

Disdain

- Ans
- 1. Withdraw
 - 2. Admiration
 - 3. Contempt
 - 4. Acceptance

Question Type : **MCQ**
Question ID : **264330136307**
Option 1 ID : **264330534003**
Option 2 ID : **264330534005**
Option 3 ID : **264330534006**
Option 4 ID : **264330534004**
Status : **Answered**
Chosen Option : **3**

Q.8 Select the most appropriate antonym of the given word.

Misdemeanour

- Ans
- 1. Offence
 - 2. Obedience
 - 3. Gullible
 - 4. Amalgamation

Question Type : **MCQ**
Question ID : **264330136683**
Option 1 ID : **264330535448**
Option 2 ID : **264330535449**
Option 3 ID : **264330535447**
Option 4 ID : **264330535450**
Status : **Answered**
Chosen Option : **1**

Q.9 Choose the sentence with no spelling error.

- Ans 1. I am willing to consider the possibility.
 2. I am willing to consider the possibility
 3. I am wiling to consider the possibility
 4. I am willing to considerr the possibility

Question Type : **MCQ**
Question ID : **264330134395**
Option 1 ID : **264330526559**
Option 2 ID : **264330526560**
Option 3 ID : **264330526561**
Option 4 ID : **264330526562**
Status : **Answered**
Chosen Option : **2**

Q.10 Select the most appropriate option to fill in the blank.

I think he is a worthy _____ of the policy and a worthy adversary for the press.

- Ans 1. reciprocate
 2. educate
 3. placate
 4. advocate

Question Type : **MCQ**
Question ID : **264330136297**
Option 1 ID : **264330533970**
Option 2 ID : **264330533969**
Option 3 ID : **264330533968**
Option 4 ID : **264330533967**
Status : **Answered**
Chosen Option : **4**

Q.11 Select the most appropriate meaning of the bracketed idiom in the given sentence.

Let the bully have (a taste of his own medicine).

- Ans 1. When you are mistreated the same way you mistreat others
 2. A result that is still unclear and can go either way
 3. A dangerous person pretending harmless
 4. A visual presentation is far more descriptive than words

Question Type : **MCQ**
Question ID : **264330136312**
Option 1 ID : **264330534026**
Option 2 ID : **264330534024**
Option 3 ID : **264330534023**
Option 4 ID : **264330534025**
Status : **Answered**
Chosen Option : **1**

Q.12 Identify the segment that contains a grammatical error. If there is no error, select 'No error'

In practice rounds, my caddie, Greg, / and me works on my short/ game with a baseball glove.

- Ans**
- 1. and me works on my short
 - 2. game with a baseball glove.
 - 3. No error
 - 4. In practice rounds, my caddie, Greg,

Question Type : **MCQ**
Question ID : **264330136293**
Option 1 ID : **264330533952**
Option 2 ID : **264330533953**
Option 3 ID : **264330533954**
Option 4 ID : **264330533951**
Status : **Answered**
Chosen Option : **1**

Q.13 Find the part of the given sentence that has an error in it. If there is no error, choose 'No error'.

Disease-carrying parasites is not picky about hosts.

- Ans**
- 1. about hosts.
 - 2. No error
 - 3. Disease-carrying parasites
 - 4. is not picky

Question Type : **MCQ**
Question ID : **264330135205**
Option 1 ID : **264330529749**
Option 2 ID : **264330529750**
Option 3 ID : **264330529747**
Option 4 ID : **264330529748**
Status : **Answered**
Chosen Option : **3**

Q.14 Select the most appropriate option to fill in the blank.

At times he acted as viceroy in William's absence; at times he led the royal forces to _____ rebellions.

- Ans**
- 1. scrutinize
 - 2. baptise
 - 3. chastise
 - 4. compromise

Question Type : **MCQ**
Question ID : **264330136316**
Option 1 ID : **264330534039**
Option 2 ID : **264330534040**
Option 3 ID : **264330534041**
Option 4 ID : **264330534042**
Status : **Answered**
Chosen Option : **2**

Q.15 Select the most appropriate option to fill in the blank.
Different cells express different proteins depending on which promoters are either active or _____.

- Ans 1. dormant
 2. lazy
 3. effectual
 4. productive

Question Type : **MCQ**
Question ID : **264330134396**
Option 1 ID : **264330526564**
Option 2 ID : **264330526565**
Option 3 ID : **264330526563**
Option 4 ID : **264330526566**
Status : **Answered**
Chosen Option : 1

Q.16 A sentence has been given with a blank to be filled with an appropriate option. Choose the correct alternative.
These were two Indian men who _____ hiding in the forest.

- Ans 1. has been
 2. had been
 3. have being
 4. was

Question Type : **MCQ**
Question ID : **264330134379**
Option 1 ID : **264330526499**
Option 2 ID : **264330526502**
Option 3 ID : **264330526501**
Option 4 ID : **264330526500**
Status : **Answered**
Chosen Option : 2

Q.17 Choose the word that means the same as the given word.
Assail

- Ans 1. Attack
 2. Perform
 3. Systematic
 4. Shield

Question Type : **MCQ**
Question ID : **264330134415**
Option 1 ID : **264330526636**
Option 2 ID : **264330526638**
Option 3 ID : **264330526635**
Option 4 ID : **264330526637**
Status : **Answered**
Chosen Option : 1

Q.18 Select the most appropriate word for the given group of words.

Killing of one person by another

- Ans
- 1. Genocide
 - 2. Filicide
 - 3. Homicide
 - 4. Fratricide

Question Type : MCQ
Question ID : 264330136306
Option 1 ID : 264330534000
Option 2 ID : 264330534001
Option 3 ID : 264330533999
Option 4 ID : 264330534002
Status : Answered
Chosen Option : 3

Q.19 Select the most appropriate word for the given group of words.

A place where snakes are kept

- Ans
- 1. Hive
 - 2. Aviary
 - 3. Apiary
 - 4. Serpentarium

Question Type : MCQ
Question ID : 264330136653
Option 1 ID : 264330535334
Option 2 ID : 264330535333
Option 3 ID : 264330535332
Option 4 ID : 264330535331
Status : Answered
Chosen Option : 4

Q.20 Select the word segment that substitutes (replaces) the bracketed word segment correctly and completes the sentence meaningfully. Select the option 'no correction required' if the sentence is correct as given.
He looked around for Bunty or Vinay, (but either off) them were anywhere near him.

- Ans
- 1. No correction required
 - 2. because either of
 - 3. but neither of
 - 4. moreover neither of

Question Type : MCQ
Question ID : 264330136694
Option 1 ID : 264330535494
Option 2 ID : 264330535493
Option 3 ID : 264330535492
Option 4 ID : 264330535491
Status : Answered
Chosen Option : 3

Comprehension:

In the following passage some words have been deleted. Fill in the blanks with the help of the alternatives given. Select the most appropriate option for each number.

English Ivy (1) _____ its poor reputation as a nuisance by its unparalleled ability to provide shade. By seamlessly covering the exterior of a building, it works as a natural (2) _____, blocking the sun and decreasing air conditioning costs. This means big savings for both building tenants and homeowners (3) _____. And it can happen quickly, too. Under the proper conditions, established English Ivy can grow to cover (4) _____ of roughly 500 square feet per year. Given that most homes have a roof measuring roughly 2000 square feet, ivy-friendly homeowners can rest assured that their roofs will be (5) _____ covered in about four years.

SubQuestion No : 21

Q.21 Select the most appropriate option to fill in blank number 1.

- Ans**
- 1. betrays
 - 2. punishes
 - 3. follows
 - 4. portrays

Question Type : **MCQ**
Question ID : **264330136674**
Option 1 ID : **264330535412**
Option 2 ID : **264330535413**
Option 3 ID : **264330535414**
Option 4 ID : **264330535411**
Status : **Answered**
Chosen Option : **3**

Comprehension:

In the following passage some words have been deleted. Fill in the blanks with the help of the alternatives given. Select the most appropriate option for each number.

English Ivy (1) _____ its poor reputation as a nuisance by its unparalleled ability to provide shade. By seamlessly covering the exterior of a building, it works as a natural (2) _____, blocking the sun and decreasing air conditioning costs. This means big savings for both building tenants and homeowners (3) _____. And it can happen quickly, too. Under the proper conditions, established English Ivy can grow to cover (4) _____ of roughly 500 square feet per year. Given that most homes have a roof measuring roughly 2000 square feet, ivy-friendly homeowners can rest assured that their roofs will be (5) _____ covered in about four years.

SubQuestion No : 22

Q.22 Select the most appropriate option to fill in blank number 2.

- Ans**
- 1. postulator
 - 2. regulator
 - 3. insulator
 - 4. modulator

Question Type : **MCQ**
Question ID : **264330136675**
Option 1 ID : **264330535417**
Option 2 ID : **264330535418**
Option 3 ID : **264330535415**
Option 4 ID : **264330535416**
Status : **Answered**
Chosen Option : **3**

Comprehension:

In the following passage some words have been deleted. Fill in the blanks with the help of the alternatives given. Select the most appropriate option for each number.

English Ivy (1) _____ its poor reputation as a nuisance by its unparalleled ability to provide shade. By seamlessly covering the exterior of a building, it works as a natural (2) _____, blocking the sun and decreasing air conditioning costs. This means big savings for both building tenants and homeowners (3) _____. And it can happen quickly, too. Under the proper conditions, established English Ivy can grow to cover (4) _____ of roughly 500 square feet per year. Given that most homes have a roof measuring roughly 2000 square feet, ivy-friendly homeowners can rest assured that their roofs will be (5) _____ covered in about four years.

SubQuestion No : 23

Q.23 Select the most appropriate option to fill in blank number 3.

- Ans**
- 1. alike
 - 2. dislike
 - 3. likely
 - 4. unlike

Question Type : **MCQ**
Question ID : **264330136676**
Option 1 ID : **264330535421**
Option 2 ID : **264330535420**
Option 3 ID : **264330535419**
Option 4 ID : **264330535422**
Status : **Answered**
Chosen Option : **2**

Comprehension:

In the following passage some words have been deleted. Fill in the blanks with the help of the alternatives given. Select the most appropriate option for each number.

English Ivy (1) _____ its poor reputation as a nuisance by its unparalleled ability to provide shade. By seamlessly covering the exterior of a building, it works as a natural (2) _____, blocking the sun and decreasing air conditioning costs. This means big savings for both building tenants and homeowners (3) _____. And it can happen quickly, too. Under the proper conditions, established English Ivy can grow to cover (4) _____ of roughly 500 square feet per year. Given that most homes have a roof measuring roughly 2000 square feet, ivy-friendly homeowners can rest assured that their roofs will be (5) _____ covered in about four years.

SubQuestion No : 24

Q.24 Select the most appropriate option to fill in blank number 4.

- Ans**
- 1. a surface
 - 2. an area
 - 3. a wall
 - 4. a lake

Question Type : **MCQ**
Question ID : **264330136677**
Option 1 ID : **264330535423**
Option 2 ID : **264330535426**
Option 3 ID : **264330535425**
Option 4 ID : **264330535424**
Status : **Answered**
Chosen Option : **2**

Comprehension:

In the following passage some words have been deleted. Fill in the blanks with the help of the alternatives given. Select the most appropriate option for each number.

English Ivy (1) _____ its poor reputation as a nuisance by its unparalleled ability to provide shade. By seamlessly covering the exterior of a building, it works as a natural (2) _____, blocking the sun and decreasing air conditioning costs. This means big savings for both building tenants and homeowners (3) _____. And it can happen quickly, too. Under the proper conditions, established English Ivy can grow to cover (4) _____ of roughly 500 square feet per year. Given that most homes have a roof measuring roughly 2000 square feet, ivy-friendly homeowners can rest assured that their roofs will be (5) _____ covered in about four years.

SubQuestion No : 25

Q.25 Select the most appropriate option to fill in blank number 5.

- Ans**
- 1. repletely
 - 2. completely
 - 3. incompletely
 - 4. obsoletely

Question Type : **MCQ**

Question ID : **264330136678**

Option 1 ID : **264330535429**

Option 2 ID : **264330535427**

Option 3 ID : **264330535430**

Option 4 ID : **264330535428**

Status : **Answered**

Chosen Option : **2**

Multi Tasking Non Technical Staff and Havaladar CBIC and CBN Examination 2022

Roll Number	KD Job Updates
Candidate Name	KD Job Updates
Venue Name	Info Educomonline Solution
Exam Date	20/06/2023
Exam Time	12:00 PM - 2:00 PM
Subject	MTS Non Tech Havaladar CBIC and CBN Examination 2022

Section : Numerical and Mathematical Ability

Q.1 15 परिणामों का औसत 52 है। यदि पहले 8 परिणामों का औसत 56 है और अंतिम 8 परिणामों का औसत 55 है, तो 8वें परिणाम का मान क्या होगा?

- Ans
- 1. 92
 - 2. 96
 - 3. 108
 - 4. 116

Question Type : MCQ

Question ID : 264330139020

Option 1 ID : 264330544688

Option 2 ID : 264330544689

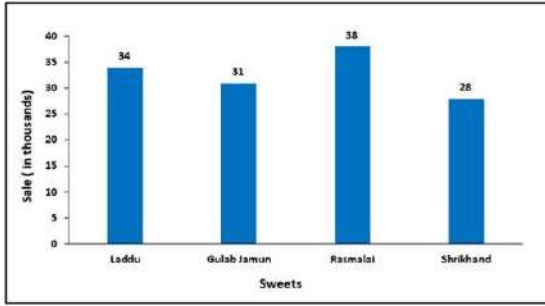
Option 3 ID : 264330544687

Option 4 ID : 264330544690

Status : Answered

Chosen Option : 3

Q.2 दिए गए आलेख में इस त्योहार के सीजन में विभिन्न मिठाइयों की बिक्री को दर्शाया गया है। किस मिठाई की सर्वाधिक बिक्री हुई?



Sale (in thousand) - बिक्री (हजार में), Sweets - मिठाई, Laddu - लड्डू, Gulab Jamun - गुलाब जामुन, Rasmalai - रसमलाई, Shrikhand - श्रीखंड

- Ans
- 1. श्रीखंड
 - 2. रसमलाई
 - 3. लड्डू
 - 4. गुलाब जामुन

Question Type : MCQ
Question ID : 264330140816
Option 1 ID : 264330551614
Option 2 ID : 264330551613
Option 3 ID : 264330551611
Option 4 ID : 264330551612
Status : Answered
Chosen Option : 2

Q.3 P, Q और R का अनुपात क्रमशः 2 : 5 : 7 है। यदि उनका योग 840 है, तो P और R में कितना अंतर है?

- Ans
- 1. 300
 - 2. 380
 - 3. 200
 - 4. 260

Question Type : MCQ
Question ID : 264330139959
Option 1 ID : 264330548217
Option 2 ID : 264330548218
Option 3 ID : 264330548215
Option 4 ID : 264330548216
Status : Answered
Chosen Option : 1

Q.4 एक व्यक्ति ने एक रुपए में 14 पेन की दर से कुछ पेन खरीदे और उन्हें एक रुपए में 10 पेन की दर से बेच दिया। उसका लाभ प्रतिशत क्या है?

- Ans
- ✓ 1. 40 प्रतिशत
 - ✗ 2. 45 प्रतिशत
 - ✗ 3. 50 प्रतिशत
 - ✗ 4. 30 प्रतिशत

Question Type : MCQ
Question ID : 264330140637
Option 1 ID : 264330550897
Option 2 ID : 264330550898
Option 3 ID : 264330550895
Option 4 ID : 264330550896
Status : Answered
Chosen Option : 1

Q.5 A अकेले किसी कार्य को 4 दिनों में कर सकता है, B अकेले उस कार्य को 6 दिनों में कर सकता है। दोनों मिलकर इसे कितने दिनों में कर सकते हैं?

- Ans
- ✗ 1. 7/12 दिनों
 - ✗ 2. 12/7 दिनों
 - ✗ 3. 5/12 दिनों
 - ✓ 4. 12/5 दिनों

Question Type : MCQ
Question ID : 264330140813
Option 1 ID : 264330551602
Option 2 ID : 264330551599
Option 3 ID : 264330551600
Option 4 ID : 264330551601
Status : Answered
Chosen Option : 4

Q.6 $[84 - (-8) \times \{16 - (11 - 3)\} + \{5 + (-8) \times (-4)\}]$ का मान निम्न में से किस के बीच स्थित है?

- Ans
- ✗ 1. 186 और 187
 - ✗ 2. 186 और 189
 - ✓ 3. 183 और 186
 - ✗ 4. -187 और -184

Question Type : MCQ
Question ID : 264330140822
Option 1 ID : 264330551637
Option 2 ID : 264330551638
Option 3 ID : 264330551636
Option 4 ID : 264330551635
Status : Answered
Chosen Option : 3

Q.7 एक मिश्रधातु में ताँबा, जस्ता और निकल क्रमशः 3:2:5 के अनुपात में हैं। इस मिश्रधातु के 100 kg में निकल की कितनी मात्रा (kg में) मिलाई जाए जिससे ताँबा, जस्ता और निकल का नया अनुपात क्रमशः 3:2:6 हो जाएगा?

- Ans
- ✓ 1. 10 kg
 - ✗ 2. 8 kg
 - ✗ 3. 15 kg
 - ✗ 4. 20 kg

Question Type : MCQ
Question ID : 264330138372
Option 1 ID : 264330542097
Option 2 ID : 264330542098
Option 3 ID : 264330542095
Option 4 ID : 264330542096
Status : Answered
Chosen Option : 1

Q.8 A, B से दोगुना कुशल है। A किसी कार्य को B की तुलना में 20 दिन कम में पूरा कर सकता है। यदि दोनों साथ मिलकर कार्य करें, तो यही कार्य कितने दिनों में पूरा होगा?

- Ans
- ✗ 1. 20 दिनों में
 - ✗ 2. 15 दिनों में
 - ✗ 3. $(27/2)$ दिनों में
 - ✓ 4. $(40/3)$ दिनों में

Question Type : MCQ
Question ID : 264330139609
Option 1 ID : 264330546851
Option 2 ID : 264330546853
Option 3 ID : 264330546854
Option 4 ID : 264330546852
Status : Answered
Chosen Option : 4

Q.9 एक वस्तु को Rs. 600 में बेचने पर प्राप्त लाभ उसी वस्तु को Rs. 400 में बेचने पर हुई हानि के बराबर है। यदि विक्रय मूल्य Rs. 750 है, तो लाभ प्रतिशत क्या है?

- Ans
- ✓ 1. 50 प्रतिशत
 - ✗ 2. 80 प्रतिशत
 - ✗ 3. 60 प्रतिशत
 - ✗ 4. 70 प्रतिशत

Question Type : MCQ
Question ID : 264330140540
Option 1 ID : 264330550515
Option 2 ID : 264330550518
Option 3 ID : 264330550516
Option 4 ID : 264330550517
Status : Answered
Chosen Option : 1

Q.10 यदि मोहन अपनी सामान्य चाल की 60 प्रतिशत चाल से यात्रा करता है, तो वह 10 मिनट देरी से पहुँचेगा। उसके द्वारा लिया गया सामान्य समय क्या है?

- Ans
- 1. 12.5 मिनट
 - 2. 15 मिनट
 - 3. 20 मिनट
 - 4. 10 मिनट

Question Type : MCQ

Question ID : 264330139590

Option 1 ID : 264330546777

Option 2 ID : 264330546775

Option 3 ID : 264330546776

Option 4 ID : 264330546778

Status : Answered

Chosen Option : 2

Q.11 एक व्यापारी ने Rs. 4296 के अंकित मूल्य वाले एक ट्रॉली बैग पर 20 प्रतिशत की छूट दी और 20 प्रतिशत का लाभ अर्जित किया। ट्रॉली बैग का क्रय मूल्य क्या है?

- Ans
- 1. Rs. 2572
 - 2. Rs. 2864
 - 3. Rs. 3026
 - 4. Rs. 2500

Question Type : MCQ

Question ID : 264330140643

Option 1 ID : 264330550919

Option 2 ID : 264330550922

Option 3 ID : 264330550920

Option 4 ID : 264330550921

Status : Answered

Chosen Option : 2

Q.12 एक गोलाकार गेंद की त्रिज्या 1.1 cm है। गेंद का पृष्ठीय क्षेत्रफल ज्ञात कीजिए।

- Ans
- 1. 11.2 cm^2
 - 2. 16 cm^2
 - 3. 15.2 cm^2
 - 4. 12.1 cm^2

Question Type : MCQ

Question ID : 264330138388

Option 1 ID : 264330542159

Option 2 ID : 264330542162

Option 3 ID : 264330542161

Option 4 ID : 264330542160

Status : Answered

Chosen Option : 3

Q.13 वह सबसे छोटी पूर्ण वर्ग संख्या कौन-सी है जो 8 और 12 दोनों से भाज्य है?

- Ans
- 1. 100
 - 2. 121
 - 3. 144
 - 4. 196

Question Type : MCQ

Question ID : 264330140626

Option 1 ID : 264330550853

Option 2 ID : 264330550854

Option 3 ID : 264330550852

Option 4 ID : 264330550851

Status : Answered

Chosen Option : 3

Q.14 यदि एक ठोस अर्धगोले के अगोलीय भाग का क्षेत्रफल 1560 m^2 है, तो अर्धगोले का कुल पृष्ठीय क्षेत्रफल कितना होगा?

- Ans
- 1. 4680 m^2
 - 2. 3120 m^2
 - 3. 5140 m^2
 - 4. 6240 m^2

Question Type : MCQ

Question ID : 264330138744

Option 1 ID : 264330543583

Option 2 ID : 264330543584

Option 3 ID : 264330543586

Option 4 ID : 264330543585

Status : Answered

Chosen Option : 1

Q.15 राहुल और रमन ने क्रमशः Rs.16000 और Rs.12000 का निवेश करके एक व्यवसाय शुरू किया। 4 महीने बाद, राहुल ने व्यवसाय छोड़ दिया और मोहन Rs.20000 का निवेश करके व्यवसाय में शामिल हो गया। वर्ष के अंत में, Rs.46000 का लाभ हुआ। लाभ में मोहन का हिस्सा कितना होगा?

- Ans
- 1. Rs.28700
 - 2. Rs.23400
 - 3. Rs.36800
 - 4. Rs.20000

Question Type : MCQ

Question ID : 264330139920

Option 1 ID : 264330548060

Option 2 ID : 264330548059

Option 3 ID : 264330548062

Option 4 ID : 264330548061

Status : Answered

Chosen Option : 4

Q.16 Rs.3500 की राशि दो हिस्सों में साधारण ब्याज पर ऋण पर दी जाती है। एक हिस्सा 7 प्रतिशत वार्षिक दर पर और दूसरा हिस्सा 5 प्रतिशत वार्षिक दर पर। यदि कुल वार्षिक ब्याज Rs.210 है, तो 7 प्रतिशत दर पर ऋण पर दी गई राशि कितनी है?

Ans ✓ 1. Rs.1750

✗ 2. Rs.2000

✗ 3. Rs.2250

✗ 4. Rs.1500

Question Type : MCQ

Question ID : 264330139922

Option 1 ID : 264330548068

Option 2 ID : 264330548067

Option 3 ID : 264330548069

Option 4 ID : 264330548070

Status : Answered

Chosen Option : 1

Q.17 $\frac{49}{8} \times \frac{2}{3} \div \frac{98}{16} \times \frac{12}{4}$ का मान क्या है?

Ans ✗ 1. 1

✓ 2. 2

✗ 3. 7

✗ 4. 9

Question Type : MCQ

Question ID : 264330140255

Option 1 ID : 264330549399

Option 2 ID : 264330549400

Option 3 ID : 264330549402

Option 4 ID : 264330549401

Status : Answered

Chosen Option : 2

Q.18 नीचे दी गई तालिका में 6 वस्तुओं का अंकित मूल्य और विक्रय मूल्य दर्शाया गया है।

वस्तुएँ	अंकित मूल्य	विक्रय मूल्य
A1	650	550
A2	500	350
A3	550	400
A4	350	300
A5	750	550
A6	250	200

बट्टा = अंकित मूल्य - विक्रय मूल्य

J1 = वस्तु A1, A2, A3 और A4 पर दिए गए बट्टों का औसत मूल्य।

J2 = सभी वस्तुओं के अंकित मूल्य और विक्रय मूल्य के बीच का अंतर।

(J2 - J1) का मान क्या है?

- Ans
- ✓ 1. 587.5
 - ✗ 2. 592.5
 - ✗ 3. 576.5
 - ✗ 4. 552.5

Question Type : MCQ

Question ID : 264330140171

Option 1 ID : 264330549063

Option 2 ID : 264330549065

Option 3 ID : 264330549064

Option 4 ID : 264330549066

Status : Answered

Chosen Option : 1

Q.19 एक व्यक्ति द्वारा Rs. 8500 के मूलधन पर 10 वर्षों में प्राप्त साधारण ब्याज मूलधन का 180 प्रतिशत है। वार्षिक ब्याज दर क्या है?

- Ans
- ✗ 1. 20 प्रतिशत
 - ✓ 2. 18 प्रतिशत
 - ✗ 3. 22.5 प्रतिशत
 - ✗ 4. 25 प्रतिशत

Question Type : MCQ

Question ID : 264330139026

Option 1 ID : 264330544712

Option 2 ID : 264330544711

Option 3 ID : 264330544713

Option 4 ID : 264330544714

Status : Answered

Chosen Option : 2

Q.20 7800 के 75 प्रतिशत के 32 प्रतिशत का मान क्या होगा?

- Ans
- ✓ 1. 1872
 - ✗ 2. 1850
 - ✗ 3. 2042
 - ✗ 4. 1952

Question Type : MCQ
Question ID : 264330139956
Option 1 ID : 264330548205
Option 2 ID : 264330548203
Option 3 ID : 264330548204
Option 4 ID : 264330548206
Status : Answered
Chosen Option : 1

Section : Reasoning Ability and Problem Solving

Q.1 उस विकल्प को चुनिए जो तीसरे अक्षर-समूह से ठीक उसी प्रकार संबंधित है जिस प्रकार दूसरा अक्षर-समूह पहले अक्षर-समूह से संबंधित है।
STUDY : TUVEZ :: HUMBLE : ?

- Ans
- ✗ 1. INVCMF
 - ✓ 2. IVNCFM
 - ✗ 3. IVNCFM
 - ✗ 4. IVNFCM

Question Type : MCQ
Question ID : 264330139992
Option 1 ID : 264330548348
Option 2 ID : 264330548350
Option 3 ID : 264330548347
Option 4 ID : 264330548349
Status : Answered
Chosen Option : 2

Q.2 सात लड़कियों आन्या, बीरा, क्लियो, डायना, एली, फातिमा और जॉर्जिया में प्रत्येक की उम्र अलग-अलग है। फातिमा केवल क्लियो से बड़ी है। बीरा केवल जॉर्जिया से छोटी है। डायना चार अन्य लड़कियों से बड़ी है। आन्या, एली से छोटी है। लड़कियों में चौथी सबसे बड़ी कौन है?

- Ans
- ✗ 1. फातिमा
 - ✗ 2. डायना
 - ✗ 3. बीरा
 - ✓ 4. एली

Question Type : MCQ
Question ID : 264330140420
Option 1 ID : 264330550062
Option 2 ID : 264330550060
Option 3 ID : 264330550059
Option 4 ID : 264330550061
Status : Answered
Chosen Option : 4

Q.3 उस विकल्प को चुनिए जो तीसरी संख्या से ठीक उसी तरह संबंधित है जिस तरह दूसरी संख्या पहली संख्या से संबंधित है।

11 : 1342 :: 7 : ?

Ans 1. 350

2. 250

3. 360

4. 340

Question Type : MCQ

Question ID : 264330140046

Option 1 ID : 264330548564

Option 2 ID : 264330548565

Option 3 ID : 264330548566

Option 4 ID : 264330548563

Status : Answered

Chosen Option : 1

Q.4 दी गई श्रृंखला में निम्नलिखित में से कौन-सी संख्या प्रश्न चिन्ह (?) के स्थान पर आएगी?

-67, -64, -58, -49, -37, -22, ?

Ans 1. -4

2. 2

3. 4

4. -2

Question Type : MCQ

Question ID : 264330140003

Option 1 ID : 264330548392

Option 2 ID : 264330548393

Option 3 ID : 264330548394

Option 4 ID : 264330548391

Status : Answered

Chosen Option : 1

Q.5 Rohan, Rajiv, Ritu, Rishav, and Ritika are sitting in a circle facing away from the centre. Rohan and Rajiv are not sitting together. Rishav and Ritika are sitting immediately next to each other, and Rajiv is sitting to the immediate left of Rishav. Who is sitting to the immediate left of Ritu?

Ans 1. Rishav

2. Ritika

3. Rohan

4. Rajiv

Question Type : MCQ

Question ID : 264330138795

Option 1 ID : 264330543789

Option 2 ID : 264330543790

Option 3 ID : 264330543787

Option 4 ID : 264330543788

Status : Answered

Chosen Option : 3

Q.6 एक निश्चित कूट भाषा में, 'GLAND' को '62437' लिखा जाता है, 'GRIND' को '34869' लिखा जाता है, 'MAIN' को '5692' लिखा जाता है। उस कूट भाषा में 'A' को कैसे लिखा जाएगा?

- Ans
- 1. 9
 - 2. 2
 - 3. 6
 - 4. 5

Question Type : MCQ

Question ID : 264330139572

Option 1 ID : 264330546705

Option 2 ID : 264330546706

Option 3 ID : 264330546704

Option 4 ID : 264330546703

Status : Answered

Chosen Option : 3

Q.7 तीन कथन दिए गए हैं और दो निष्कर्ष I और II दिए गए हैं। कथनों को सत्य मानते हुए, चाहे वे सामान्यतः ज्ञात तथ्यों से अलग प्रतीत होते हों, निश्चय कीजिए कि कौन-सा निष्कर्ष तार्किक रूप से कथनों के अनुसार है।
कथन:

कुछ घर, फ्लैट हैं।

कुछ फ्लैट, आलीशान हैं।

सभी आलीशान, महंगे हैं।

निष्कर्ष:

I. कुछ फ्लैट, महंगे हैं।

II. कुछ घर, आलीशान हैं।

- Ans
- 1. दोनों निष्कर्ष I और II कथनों के अनुसार हैं
 - 2. निष्कर्ष I और II में से कोई भी कथनों के अनुसार नहीं है
 - 3. सिर्फ निष्कर्ष I कथनों के अनुसार है
 - 4. सिर्फ निष्कर्ष II कथनों के अनुसार है

Question Type : MCQ

Question ID : 264330140402

Option 1 ID : 264330549989

Option 2 ID : 264330549990

Option 3 ID : 264330549987

Option 4 ID : 264330549988

Status : Answered

Chosen Option : 3

Q.8 दो कथन दिए गए हैं और दो निष्कर्ष I और II दिए गए हैं। कथनों को सत्य मानते हुए, चाहे वे सामान्यतः ज्ञात तथ्यों से अलग प्रतीत होते हों, निश्चय कीजिए कि कौन-सा निष्कर्ष तार्किक रूप से कथनों के अनुसार है।
कथन:
कोई सेब, स्वादिष्ट नहीं है।
कुछ स्वादिष्ट, कड़वे हैं।
निष्कर्ष:
I. कुछ सेब, कड़वे हैं।
II. कोई स्वादिष्ट, सेब नहीं है।

- Ans
- 1. दोनों निष्कर्ष I और II कथनों के अनुसार हैं
 - 2. सिर्फ निष्कर्ष II कथनों के अनुसार है
 - 3. न तो निष्कर्ष I और न ही II कथनों के अनुसार है
 - 4. सिर्फ निष्कर्ष I कथनों के अनुसार है

Question Type : MCQ
Question ID : 264330140042
Option 1 ID : 264330548549
Option 2 ID : 264330548548
Option 3 ID : 264330548550
Option 4 ID : 264330548547
Status : Answered
Chosen Option : 2

Q.9 कितन दो चिन्हों को आपस में बदलने पर दिए गए समीकरण का मान '11' होगा?

$$32 + 3 - 12 \div 18 \times 9$$

- Ans
- 1. \div और $-$
 - 2. \times और $-$
 - 3. \div और \times
 - 4. $+$ और $-$

Question Type : MCQ
Question ID : 264330140068
Option 1 ID : 264330548651
Option 2 ID : 264330548654
Option 3 ID : 264330548652
Option 4 ID : 264330548653
Status : Answered
Chosen Option : 3

Q.10 निम्नलिखित प्रश्न में, दी गई श्रृंखला में लुप्त संख्या को चुनिए।

4, 6, 8, 10, ?, 14

- Ans
- 1. 11
 - 2. 14
 - 3. 12
 - 4. 15

Question Type : MCQ

Question ID : 264330139579

Option 1 ID : 264330546734

Option 2 ID : 264330546732

Option 3 ID : 264330546731

Option 4 ID : 264330546733

Status : Answered

Chosen Option : 3

Q.11 एक निश्चित कूट भाषा में, 'LION' को 'MKPP' लिखा जाता है और 'DEER' को 'EGFT' लिखा जाता है। उस कूट भाषा में 'GOAT' को कैसे लिखा जाएगा?

- Ans
- 1. HPBV
 - 2. HQBV
 - 3. HQCV
 - 4. HQBU

Question Type : MCQ

Question ID : 264330140455

Option 1 ID : 264330550201

Option 2 ID : 264330550200

Option 3 ID : 264330550202

Option 4 ID : 264330550199

Status : Answered

Chosen Option : 2

Q.12 दिए गए समीकरण को सही करने के लिए किन दो चिन्हों को आपस में बदला जाना चाहिए?

$$8 = 5 - 31 + 12 \div 2 \times 15$$

- Ans
- 1. \div और $-$
 - 2. \times और $=$
 - 3. $-$ और $+$
 - 4. $+$ और \div

Question Type : MCQ

Question ID : 264330140089

Option 1 ID : 264330548735

Option 2 ID : 264330548737

Option 3 ID : 264330548736

Option 4 ID : 264330548738

Status : Answered

Chosen Option : 2

Q.13 उस विकल्प को चुनिए जिसमें समुच्चय की संख्याएँ वही संबंध साझा करती हैं जो दिए गए समुच्चय में संख्याओं द्वारा साझा किया जाता है। (ध्यान दें: संख्याओं को उनके घटक अंकों में अलग-अलग किए बिना, पूर्ण संख्याओं पर संक्रियाएँ की जानी चाहिए। उदा. 13 - 13 पर संक्रियाएँ जैसे 13 को जोड़ना / घटाना / गुणा करना आदि किया जा सकता है। 13 को 1 और 3 में अलग-अलग करने की और फिर 1 और 3 पर गणितीय संक्रियाएँ करने की अनुमति नहीं है)

(500, 450, 400)

(600, 550, 500)

Ans ✓ 1. (400, 350, 300)

✗ 2. (800, 750, 650)

✗ 3. (350, 300, 200)

✗ 4. (300, 350, 250)

Question Type : **MCQ**

Question ID : **264330140067**

Option 1 ID : **264330548648**

Option 2 ID : **264330548650**

Option 3 ID : **264330548649**

Option 4 ID : **264330548647**

Status : **Answered**

Chosen Option : 1

Q.14 उस विकल्प को चुनिए जो पाँचवें पद से ठीक उसी प्रकार संबंधित है जिस प्रकार दूसरा पद पहले पद से संबंधित है और चौथा पद तीसरे पद से संबंधित है।

ABC : EWJ :: JHK : NCR :: PMT : ?

Ans ✓ 1. **THA**

✗ 2. **TGA**

✗ 3. **TJC**

✗ 4. **TIB**

Question Type : **MCQ**

Question ID : **264330139570**

Option 1 ID : **264330546696**

Option 2 ID : **264330546695**

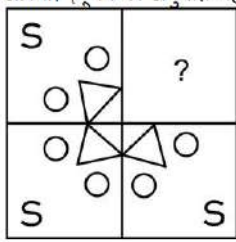
Option 3 ID : **264330546698**

Option 4 ID : **264330546697**

Status : **Answered**

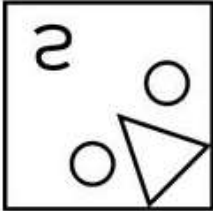
Chosen Option : 1

Q.15 उस विकल्प आकृति को चुनिए जो नीचे दी गई आकृति में पैटर्न को पूरा करने के लिए प्रश्न चिन्ह (?) के स्थान पर आएगी। (घूर्णन की अनुमति नहीं है)।

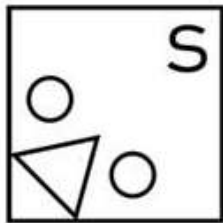


Ans

✗ 1.



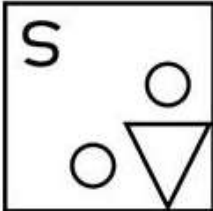
✓ 2.



✗ 3.



✗ 4.



Question Type : MCQ

Question ID : 264330140152

Option 1 ID : 264330548987

Option 2 ID : 264330548990

Option 3 ID : 264330548988

Option 4 ID : 264330548989

Status : Answered

Chosen Option : 2

Q.16 दी गई श्रृंखला में निम्नलिखित में से कौन-सा अक्षर प्रश्न चिन्ह (?) के स्थान पर आएगा?
N, P, R, T, V, X, ?

- Ans
- 1. S
 - 2. M
 - 3. Z
 - 4. R

Question Type : MCQ

Question ID : 264330138766

Option 1 ID : 264330543674

Option 2 ID : 264330543671

Option 3 ID : 264330543672

Option 4 ID : 264330543673

Status : Answered

Chosen Option : 3

Q.17 एक निश्चित कूट भाषा में, 'PASTA' को 'AP19AT' लिखा जाता है। उस भाषा में 'VOCAL' को कैसे लिखा जाएगा?

- Ans
- 1. O3VLA
 - 2. OVL3A
 - 3. OU8AL
 - 4. OV3LA

Question Type : MCQ

Question ID : 264330137837

Option 1 ID : 264330539958

Option 2 ID : 264330539956

Option 3 ID : 264330539957

Option 4 ID : 264330539955

Status : Answered

Chosen Option : 4

Q.18

उस विकल्प आकृति को चुनिए जिसमें दी गई आकृति निहित है।(घूर्णन की अनुमति नहीं है)

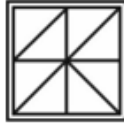


Ans

✗ 1.



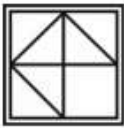
✓ 2.



✗ 3.



✗ 4.



Question Type : MCQ

Question ID : 264330140973

Option 1 ID : 264330552240

Option 2 ID : 264330552239

Option 3 ID : 264330552241

Option 4 ID : 264330552242

Status : Answered

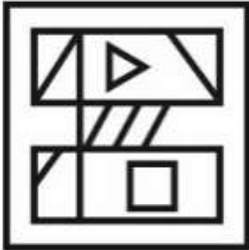
Chosen Option : 2

Q.19 यदि एक दर्पण को रेखा AB पर रखा जाए, तो दी गई विकल्प आकृतियों में से कौन-सी आकृति प्रश्न आकृति का सही प्रतिबिम्ब होगी?

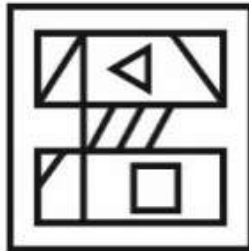


Ans

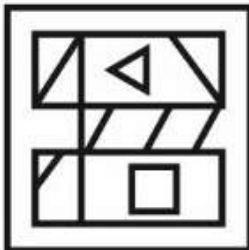
✗ 1.



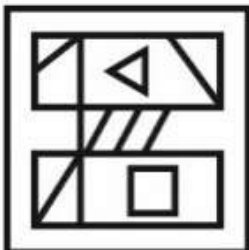
✓ 2.



✗ 3.



✗ 4.



Question Type : MCQ

Question ID : 264330139566

Option 1 ID : 264330546680

Option 2 ID : 264330546682

Option 3 ID : 264330546681

Option 4 ID : 264330546679

Status : Answered

Chosen Option : 2

Q.20 तीन चिड़ियाँ A, B और C एक विद्युत तार पर एक सीधी रेखा में दक्षिण की ओर मुख करके बैठी हैं। तीन कोंवे X, Y, और Z एक दूसरे समानांतर विद्युत तार पर उत्तर की ओर मुख करके बैठे हैं। A, B के ठीक बाईं ओर बैठी है, और A का मुख Z की ओर है। यदि B, A और C के बीच में बैठी है, और C का मुख Y की ओर है, तो Y के ठीक दाईं ओर कौन बैठा है?

- Ans
- ✓ 1. X
 - ✗ 2. Z
 - ✗ 3. B
 - ✗ 4. A

Question Type : **MCQ**
Question ID : **264330140018**
Option 1 ID : **264330548452**
Option 2 ID : **264330548451**
Option 3 ID : **264330548453**
Option 4 ID : **264330548454**
Status : **Answered**
Chosen Option : 1

Section : **General Awareness**

Q.1 फरवरी 2022 में, भारत सरकार ने यूक्रेन में फंसे भारतीयों को वापस लाने के लिए कौन-सा ऑपरेशन चलाया था?

- Ans
- ✗ 1. ऑपरेशन फ्लड (Operation Flood)
 - ✓ 2. ऑपरेशन गंगा (Operation Ganga)
 - ✗ 3. ऑपरेशन कीव (Operation Kiev)
 - ✗ 4. ऑपरेशन मॉस्को (Operation Moscow)

Question Type : **MCQ**
Question ID : **264330140276**
Option 1 ID : **264330549483**
Option 2 ID : **264330549484**
Option 3 ID : **264330549485**
Option 4 ID : **264330549486**
Status : **Answered**
Chosen Option : 2

Q.2 वर्ष 1952 के ओलंपिक खेल निम्नलिखित में से किस शहर में आयोजित किए गए थे?

- Ans
- ✗ 1. न्यूयॉर्क
 - ✗ 2. बर्लिन
 - ✗ 3. लंदन
 - ✓ 4. हेल्सिंकी

Question Type : **MCQ**
Question ID : **264330139676**
Option 1 ID : **264330547119**
Option 2 ID : **264330547121**
Option 3 ID : **264330547120**
Option 4 ID : **264330547122**
Status : **Answered**
Chosen Option : 1

Q.3 "गलगंड" निम्नलिखित में से किस ग्रंथि की एक बीमारी है?

- Ans
- 1. अधिवृक्क ग्रंथि
 - 2. अग्न्याशय
 - 3. थाइराइड ग्रंथि
 - 4. पीयूष ग्रंथि

Question Type : MCQ
Question ID : 264330139737
Option 1 ID : 264330547365
Option 2 ID : 264330547366
Option 3 ID : 264330547363
Option 4 ID : 264330547364
Status : Answered
Chosen Option : 3

Q.4 निम्नलिखित में से कौन-सा कृषि आधारित उद्योग (agro-based industry) है?

- Ans
- 1. लोहा और इस्पात
 - 2. एल्यूमीनियम
 - 3. कोयला
 - 4. चीनी

Question Type : MCQ
Question ID : 264330140685
Option 1 ID : 264330551087
Option 2 ID : 264330551088
Option 3 ID : 264330551090
Option 4 ID : 264330551089
Status : Answered
Chosen Option : 4

Q.5 प्रसिद्ध पांडवलेनी गुफाएँ निम्नलिखित में से किस राज्य में स्थित हैं?

- Ans
- 1. उड़ीसा
 - 2. महाराष्ट्र
 - 3. बिहार
 - 4. केरल

Question Type : MCQ
Question ID : 264330140346
Option 1 ID : 264330549765
Option 2 ID : 264330549764
Option 3 ID : 264330549763
Option 4 ID : 264330549766
Status : Answered
Chosen Option : 1

Q.6 Snails is an example of which of the phylum of animal kingdom?

- Ans
- 1. Annelida
 - 2. Mollusca
 - 3. Protochordate
 - 4. Arthropoda

Question Type : MCQ

Question ID : 264330140937

Option 1 ID : 264330552096

Option 2 ID : 264330552098

Option 3 ID : 264330552095

Option 4 ID : 264330552097

Status : Answered

Chosen Option : 2

Q.7 भारत की समुद्री तट रेखा जिसमें अंडमान और निकोबार द्वीप समूह तथा लक्षद्वीप समूह भी शामिल हैं, _____ लंबी है।

- Ans
- 1. 7416.6 km
 - 2. 7616 km
 - 3. 7516.6 km
 - 4. 7716 km

Question Type : MCQ

Question ID : 264330139666

Option 1 ID : 264330547079

Option 2 ID : 264330547081

Option 3 ID : 264330547080

Option 4 ID : 264330547082

Status : Answered

Chosen Option : 1

Q.8 मल्लिका साराभाई को कला प्रदर्शन में उनके योगदान के लिए पद्म भूषण (2010) से सम्मानित किया गया था। वह किस नृत्य शैली के लिए जानी जाती थीं?

- Ans
- 1. कुचिपुड़ी और भरतनाट्यम
 - 2. मणिपुरी और ओडिसी
 - 3. कथकली और ओडिसी
 - 4. कथक और भरतनाट्यम

Question Type : MCQ

Question ID : 264330139680

Option 1 ID : 264330547135

Option 2 ID : 264330547136

Option 3 ID : 264330547138

Option 4 ID : 264330547137

Status : Answered

Chosen Option : 1

Q.9 निम्नलिखित पद - ड्रिब्लिंग (Dribbling), पासिंग (passing), शूटिंग (shooting) किस खेल से संबंधित हैं?

- Ans
- 1. निशानेबाजी
 - 2. बैडमिंटन
 - 3. क्रिकेट
 - 4. बास्केटबॉल

Question Type : MCQ
Question ID : 264330140884
Option 1 ID : 264330551883
Option 2 ID : 264330551886
Option 3 ID : 264330551885
Option 4 ID : 264330551884
Status : Answered
Chosen Option : 1

Q.10 2011 की जनगणना के अनुसार भारत में आदिवासियों की जनसंख्या (निकटतम मान) कितनी है?

- Ans
- 1. 16.45 करोड़
 - 2. 10.42 करोड़
 - 3. 12.45 करोड़
 - 4. 14.45 करोड़

Question Type : MCQ
Question ID : 264330139886
Option 1 ID : 264330547926
Option 2 ID : 264330547923
Option 3 ID : 264330547924
Option 4 ID : 264330547925
Status : Answered
Chosen Option : 2

Q.11 शकों पर विजय प्राप्त करने के पश्चात निम्नलिखित में से किसने 'विक्रमादित्य' की उपाधि धारण की थी?

- Ans
- 1. चंद्रगुप्त प्रथम
 - 2. कुमारगुप्त प्रथम
 - 3. चंद्रगुप्त द्वितीय
 - 4. स्कंदगुप्त

Question Type : MCQ
Question ID : 264330140944
Option 1 ID : 264330552125
Option 2 ID : 264330552124
Option 3 ID : 264330552126
Option 4 ID : 264330552123
Status : Answered
Chosen Option : 3

Q.12 लोक सभा के समक्ष वार्षिक बजट कौन प्रस्तुत करता है?

Ans 1. केंद्रीय वित्त मंत्री

2. गृहमंत्री

3. रक्षा मंत्री

4.

भारत के नियंत्रक एवं महालेखापरीक्षक (Comptroller and Auditor General of India)

Question Type : MCQ

Question ID : 264330140391

Option 1 ID : 264330549944

Option 2 ID : 264330549946

Option 3 ID : 264330549945

Option 4 ID : 264330549943

Status : Answered

Chosen Option : 1

Q.13 The upper portion of the mantle is called _____.

Ans 1. lithosphere

2. asthenosphere

3. barosphere

4. mesosphere

Question Type : MCQ

Question ID : 264330140325

Option 1 ID : 264330549679

Option 2 ID : 264330549680

Option 3 ID : 264330549681

Option 4 ID : 264330549682

Status : Answered

Chosen Option : 1

Q.14 पद, वेतन और सैन्य उत्तरदायित्व निर्धारित करने के लिए मुगलों द्वारा चलाई गई श्रेणी व्यवस्था को _____ कहा जाता था।

Ans 1. महालवाड़ी व्यवस्था

2. मनसबदारी व्यवस्था

3. इक्ता व्यवस्था

4. रैयतवाड़ी व्यवस्था

Question Type : MCQ

Question ID : 264330139770

Option 1 ID : 264330547498

Option 2 ID : 264330547495

Option 3 ID : 264330547496

Option 4 ID : 264330547497

Status : Answered

Chosen Option : 2

Q.15 भारत के पड़ोसी देश, बांग्लादेश की मुद्रा क्या है?

- Ans
- 1. नॉगत्रुम (Ngultrum)
 - 2. युआन (Yuan)
 - 3. टका (Taka)
 - 4. कयात (Kyat)

Question Type : MCQ
Question ID : 264330140329
Option 1 ID : 264330549695
Option 2 ID : 264330549697
Option 3 ID : 264330549696
Option 4 ID : 264330549698
Status : Answered
Chosen Option : 3

Q.16 2022 की स्थिति के अनुसार, 2022 में पद्म श्री पुरस्कार से सम्मानित होने वाली भारत की अंतिम जीवित सदिर नर्तकी (Sadhira dancer) कौन हैं?

- Ans
- 1. मंजम्मा जोगति (Manjamma Jogati)
 - 2. आर मुथुकन्नमल (R Muthukannammal)
 - 3. बैसाली मोहंती (Baisali Mohanty)
 - 4. रुक्मिणी देवी अरुंडेल (Rukmini Devi Arundale)

Question Type : MCQ
Question ID : 264330140745
Option 1 ID : 264330551327
Option 2 ID : 264330551329
Option 3 ID : 264330551328
Option 4 ID : 264330551330
Status : Answered
Chosen Option : 1

Q.17 भारतीय संविधान में "संविधान संशोधन (Amendment of the Constitution)" की अवधारणा निम्नलिखित में से किस देश के संविधान से ली गई है?

- Ans
- 1. कनाडा
 - 2. दक्षिण अफ्रीका
 - 3. जर्मनी
 - 4. ऑस्ट्रेलिया

Question Type : MCQ
Question ID : 264330140362
Option 1 ID : 264330549830
Option 2 ID : 264330549829
Option 3 ID : 264330549827
Option 4 ID : 264330549828
Status : Answered
Chosen Option : 2

Q.18 निम्नलिखित में से कौन-सा नृत्य विशेष रूप से कामड (Kamad) जनजाति की महिलाओं द्वारा किया जाता है?

- Ans
- ✓ 1. तेरहताली नृत्य (Terataal dance)
 - ✗ 2. गरई नृत्य (Garai dance)
 - ✗ 3. भूटिया नृत्य (Bhutia dance)
 - ✗ 4. मुखौटा नृत्य (Mask dance)

Question Type : MCQ

Question ID : 264330140267

Option 1 ID : 264330549448

Option 2 ID : 264330549450

Option 3 ID : 264330549447

Option 4 ID : 264330549449

Status : Answered

Chosen Option : 1

Q.19 ग्राम सभा एक _____ के क्षेत्र में रहने वाले सभी वयस्कों की सभा होती है।

- Ans
- ✗ 1. ज़िला
 - ✓ 2. पंचायत
 - ✗ 3. शहर
 - ✗ 4. राज्य

Question Type : MCQ

Question ID : 264330139659

Option 1 ID : 264330547052

Option 2 ID : 264330547053

Option 3 ID : 264330547051

Option 4 ID : 264330547054

Status : Answered

Chosen Option : 2

Q.20 भारतीय संगीतकार उस्ताद अल्ला रक्खा कुरैशी का संबंध _____ वाद्ययंत्र से है।

- Ans
- ✗ 1. सरोद
 - ✓ 2. तबला
 - ✗ 3. संतूर
 - ✗ 4. बाँसुरी

Question Type : MCQ

Question ID : 264330140769

Option 1 ID : 264330551425

Option 2 ID : 264330551423

Option 3 ID : 264330551424

Option 4 ID : 264330551426

Status : Answered

Chosen Option : 1

Q.21 वर्ष 1773 में मुख्य रूप से बंगाल में ईस्ट इंडिया कंपनी के क्षेत्रों को नियंत्रित करने के लिए ब्रिटिश संसद ने कौन-सा एक्ट (अधिनियम) पारित किया गया था?

Ans

- ✓ 1. रेग्युलैटिंग एक्ट
- ✗ 2. चार्टर एक्ट
- ✗ 3. इंडियन काउंसिल्स एक्ट
- ✗ 4. गवर्नमेंट ऑफ इंडिया एक्ट

Question Type : MCQ

Question ID : 264330140332

Option 1 ID : 264330549710

Option 2 ID : 264330549707

Option 3 ID : 264330549708

Option 4 ID : 264330549709

Status : Answered

Chosen Option : 1

Q.22 Henry Louis Vivian Derozio was a teacher of which college in 1820s?

Ans

- ✗ 1. Sanskrit college, Varanasi
- ✗ 2. Indian Institute of science, Bangalore
- ✗ 3. Banaras Engineering college, Varanasi
- ✓ 4. Hindu college, Calcutta

Question Type : MCQ

Question ID : 264330140904

Option 1 ID : 264330551966

Option 2 ID : 264330551965

Option 3 ID : 264330551963

Option 4 ID : 264330551964

Status : Answered

Chosen Option : 1

Q.23 The materials, through which things can be seen, are called _____.

Ans

- ✗ 1. translucent materials
- ✗ 2. conductive materials
- ✗ 3. opaque materials
- ✓ 4. transparent materials

Question Type : MCQ

Question ID : 264330139664

Option 1 ID : 264330547072

Option 2 ID : 264330547074

Option 3 ID : 264330547073

Option 4 ID : 264330547071

Status : Answered

Chosen Option : 4

Q.24 Under which amendment act, article 51A (k) of the Indian constitution was inserted in the constitution?

- Ans**
- 1. Eighty – second amendment Act
 - 2. Eighty – first amendment Act
 - 3. Eighty – sixth amendment Act
 - 4. Eighty – fourth amendment Act

Question Type : **MCQ**

Question ID : **264330138983**

Option 1 ID : **264330544540**

Option 2 ID : **264330544539**

Option 3 ID : **264330544542**

Option 4 ID : **264330544541**

Status : **Answered**

Chosen Option : **1**

Q.25 ब्रिटिश भारत के किस स्वतंत्रता सेनानी को "द्वि-राष्ट्र सिद्धांत का जनक (father of the two-nation theory)" माना जाता है?

- Ans**
- 1. मोहम्मद अली जिन्ना
 - 2. बाल गंगाधर तिलक
 - 3. सैयद अहमद खान
 - 4. जवाहरलाल नेहरू

Question Type : **MCQ**

Question ID : **264330140922**

Option 1 ID : **264330552035**

Option 2 ID : **264330552037**

Option 3 ID : **264330552038**

Option 4 ID : **264330552036**

Status : **Answered**

Chosen Option : **1**

Section : **English Language and Comprehension**

Q.1 Select the word from the options which is exactly opposite in meaning to the bracketed word given in the sentence below.

The pandemic has seen soaring home prices and record housing (insecurity).

- Ans**
- 1. Pretence
 - 2. Hesitancy
 - 3. Self-doubt
 - 4. Firmness

Question Type : **MCQ**

Question ID : **264330136429**

Option 1 ID : **264330534478**

Option 2 ID : **264330534477**

Option 3 ID : **264330534476**

Option 4 ID : **264330534475**

Status : **Answered**

Chosen Option : **4**

Q.2 Find the part of the given sentence that has an error in it. If there is no error, choose 'No error'.

Raising temperatures in the springtime signal plants and animals to come alive.

- Ans**
- 1. springtime signal plants and
 - 2. No error
 - 3. animals to come alive.
 - 4. Raising temperatures in the

Question Type : **MCQ**
Question ID : **264330135232**
Option 1 ID : **264330529852**
Option 2 ID : **264330529854**
Option 3 ID : **264330529853**
Option 4 ID : **264330529851**
Status : **Answered**
Chosen Option : **4**

Q.3 Select the most appropriate option to fill in the blank.

Bushfire in Australia has _____ the conditions of many animals in the forest.

- Ans**
- 1. worsened
 - 2. fortified
 - 3. maintained
 - 4. surpassed

Question Type : **MCQ**
Question ID : **264330135662**
Option 1 ID : **264330531546**
Option 2 ID : **264330531544**
Option 3 ID : **264330531543**
Option 4 ID : **264330531545**
Status : **Answered**
Chosen Option : **1**

Q.4 Four sentences are given, out of which three have spelling errors. Choose the sentence with all correctly spelt words.

- Ans**
- 1. Urban dwellers often accept noise as part of city life.
 - 2. She is going to divorce him on the grounds of adultery.
 - 3.
- Its sanctions are based on comparisons between the two companies.
- 4. I was a bit depressed by our apparant lack of progress.

Question Type : **MCQ**
Question ID : **264330136584**
Option 1 ID : **264330535070**
Option 2 ID : **264330535069**
Option 3 ID : **264330535067**
Option 4 ID : **264330535068**
Status : **Answered**
Chosen Option : **1**

Q.5 Select the most appropriate meaning of the given idiom.

A bad egg

- Ans
- 1. To be frustrated
 - 2. To calm down
 - 3. A very small insignificant amount
 - 4. A bad person

Question Type : MCQ
Question ID : 264330136181
Option 1 ID : 264330533521
Option 2 ID : 264330533522
Option 3 ID : 264330533520
Option 4 ID : 264330533519
Status : Answered
Chosen Option : 4

Q.6 Identify the segment that contains a grammatical error. If there is no error, select 'No error'.

Eight years ago, she founded / Humans of Bombay, inspired of / the single idea – we all want to be heard.

- Ans
- 1. Eight years ago, she founded
 - 2. No error
 - 3. Humans of Bombay, inspired of
 - 4. the single idea – we all want to be heard.

Question Type : MCQ
Question ID : 264330136410
Option 1 ID : 264330534403
Option 2 ID : 264330534406
Option 3 ID : 264330534404
Option 4 ID : 264330534405
Status : Answered
Chosen Option : 3

Q.7 Select the most appropriate synonym of the given word.

Enthuse

- Ans
- 1. Fondle
 - 2. Lazy
 - 3. Carefree
 - 4. Unbothered

Question Type : MCQ
Question ID : 264330136577
Option 1 ID : 264330535042
Option 2 ID : 264330535041
Option 3 ID : 264330535039
Option 4 ID : 264330535040
Status : Answered
Chosen Option : 2

Q.8 Select the most appropriate option to fill in the blank.

Look in a mirror and take your _____ with each step.

- Ans
- 1. time
 - 2. plague
 - 3. ages
 - 4. hostage

Question Type : MCQ
Question ID : 264330135533
Option 1 ID : 264330531037
Option 2 ID : 264330531038
Option 3 ID : 264330531036
Option 4 ID : 264330531035
Status : Answered
Chosen Option : 1

Q.9 Identify the segment that contains a grammatical error. If there is no error, select 'No error'.

Have you ever gone into/ a high-street shop wearing/ a pair of cycling shorts?

- Ans
- 1. a pair of cycling shorts?
 - 2. No error
 - 3. Have you ever gone into
 - 4. a high-street shop wearing

Question Type : MCQ
Question ID : 264330136483
Option 1 ID : 264330534681
Option 2 ID : 264330534682
Option 3 ID : 264330534679
Option 4 ID : 264330534680
Status : Answered
Chosen Option : 3

Q.10 Select the most appropriate option to fill in the blank.

There was a general hesitation and _____ to ignore the problem.

- Ans
- 1. Deride
 - 2. Denigrate
 - 3. Disposition
 - 4. Demur

Question Type : MCQ
Question ID : 264330136542
Option 1 ID : 264330534910
Option 2 ID : 264330534909
Option 3 ID : 264330534908
Option 4 ID : 264330534907
Status : Answered
Chosen Option : 3

Q.11 Select the most appropriate option to substitute the bracketed segment in the given sentence. If there is no need to substitute it, select 'no substitution required'.

Though they allow celebrities and famous people to take pictures (inside the museum, but they does not allow the general public) to do the same.

- Ans**
- 1. inside the museum, they do not allow the general public
 - 2. inside the museum, but do not allowing the general public
 - 3. inside the museum, they does not allow general public
 - 4. No substitution required

Question Type : **MCQ**
Question ID : **264330136191**
Option 1 ID : **264330533561**
Option 2 ID : **264330533560**
Option 3 ID : **264330533559**
Option 4 ID : **264330533562**
Status : **Answered**
Chosen Option : **1**

Q.12 Select the most appropriate option to substitute the bracketed segment in the given sentence. If there is no need to substitute it, select 'no substitution required'.

I assisted him to undo the (task after I finished my work).

- Ans**
- 1. task after I will have finished my work
 - 2. No substitution required
 - 3. task after I will finish my work
 - 4. task after I had finished my work

Question Type : **MCQ**
Question ID : **264330135823**
Option 1 ID : **264330532164**
Option 2 ID : **264330532166**
Option 3 ID : **264330532163**
Option 4 ID : **264330532165**
Status : **Answered**
Chosen Option : **1**

Q.13 Improve the underlined part of the sentence. Choose 'No improvement' as an answer if the sentence is grammatically correct.

She was born with full sight and hearing.

- Ans**
- 1. fully sight
 - 2. full sighting
 - 3. No improvement
 - 4. full sighted

Question Type : **MCQ**
Question ID : **264330135642**
Option 1 ID : **264330531467**
Option 2 ID : **264330531469**
Option 3 ID : **264330531470**
Option 4 ID : **264330531468**
Status : **Answered**
Chosen Option : **2**

Q.14 Select the most appropriate word for the given group of words.

The branch of physics concerned with the properties of sound

- Ans 1. Acoustics
 2. Anarchist
 3. Anchor
 4. Apiary

Question Type : **MCQ**
Question ID : **264330135677**
Option 1 ID : **264330531601**
Option 2 ID : **264330531600**
Option 3 ID : **264330531599**
Option 4 ID : **264330531602**
Status : **Answered**
Chosen Option : 1

Q.15 Select the most appropriate word for the given group of words.

A historical account or biography written from personal knowledge

- Ans 1. Chronicle
 2. Blog
 3. Thesis
 4. Memoir

Question Type : **MCQ**
Question ID : **264330135860**
Option 1 ID : **264330532305**
Option 2 ID : **264330532303**
Option 3 ID : **264330532306**
Option 4 ID : **264330532304**
Status : **Answered**
Chosen Option : 1

Q.16 Fill in the blank with the most appropriate option.

Harry stepped in, his head almost _____ the sloping ceiling, and blinked.

- Ans 1. embracing
 2. grasping
 3. touching
 4. cuddling

Question Type : **MCQ**
Question ID : **264330136567**
Option 1 ID : **264330535003**
Option 2 ID : **264330535004**
Option 3 ID : **264330535006**
Option 4 ID : **264330535005**
Status : **Answered**
Chosen Option : 3

Q.17 Select the most appropriate antonym of the given word.

Satisfactory

- Ans**
- 1. Diminish
 - 2. Inadequate
 - 3. Morose
 - 4. Revive

Question Type : **MCQ**
Question ID : **264330135837**
Option 1 ID : **264330532217**
Option 2 ID : **264330532215**
Option 3 ID : **264330532216**
Option 4 ID : **264330532218**
Status : **Answered**
Chosen Option : **2**

Q.18 Four words are given, out of which three words are spelt correctly. Choose the incorrectly spelt word.

- Ans**
- 1. UNFORESEEN
 - 2. STILETTOS
 - 3. VISCIOUS
 - 4. BEWILDERS

Question Type : **MCQ**
Question ID : **264330136287**
Option 1 ID : **264330533927**
Option 2 ID : **264330533929**
Option 3 ID : **264330533928**
Option 4 ID : **264330533930**
Status : **Answered**
Chosen Option : **2**

Q.19 The statement below has been given with bracketed text. Select the option with correct idiom for the bracketed text.
You all look **great** in your costumes! (Good luck!)

- Ans**
- 1. Break a leg
 - 2. Spit it out
 - 3. Come again
 - 4. Don't swear it

Question Type : **MCQ**
Question ID : **264330136156**
Option 1 ID : **264330533425**
Option 2 ID : **264330533423**
Option 3 ID : **264330533426**
Option 4 ID : **264330533424**
Status : **Answered**
Chosen Option : **1**

Q.20 Select the word from the options which is similar in meaning to the bracketed part given in the sentence below.
I was (feeling afraid) that something bad would happen.

- Ans**
- 1. Divine
 - 2. Sacred
 - 3. Scared
 - 4. Bold

Question Type : **MCQ**
Question ID : **264330135862**
Option 1 ID : **264330532314**
Option 2 ID : **264330532312**
Option 3 ID : **264330532311**
Option 4 ID : **264330532313**
Status : **Answered**
Chosen Option : **3**

Comprehension:

In the following passage some words have been deleted. Fill in the blanks with the help of the alternatives given. Select the most appropriate option for each number.

Metal allergies can begin to act up (1) _____ minutes of putting earrings in your ears. Some people can go a few hours before having to (2) _____ the earrings out, but some can barely stand the (3) _____ enough to bother putting earrings in at all. This can be discouraging for those of us (4) _____ love to wear earrings, but fortunately hypoallergenic jewellery for (5) _____ ears exists!

SubQuestion No : 21

Q.21 Select the most appropriate option to fill in the blank No. 1.

- Ans**
- 1. with
 - 2. of
 - 3. about
 - 4. within

Question Type : **MCQ**
Question ID : **264330136144**
Option 1 ID : **264330533376**
Option 2 ID : **264330533375**
Option 3 ID : **264330533378**
Option 4 ID : **264330533377**
Status : **Answered**
Chosen Option : **4**

Comprehension:

In the following passage some words have been deleted. Fill in the blanks with the help of the alternatives given. Select the most appropriate option for each number.

Metal allergies can begin to act up (1) _____ minutes of putting earrings in your ears. Some people can go a few hours before having to (2) _____ the earrings out, but some can barely stand the (3) _____ enough to bother putting earrings in at all. This can be discouraging for those of us (4) _____ love to wear earrings, but fortunately hypoallergenic jewellery for (5) _____ ears exists!

SubQuestion No : 22

Q.22 Select the most appropriate option to fill in the blank No. 2.

- Ans
- 1. take
 - 2. expel
 - 3. make
 - 4. hand

Question Type : **MCQ**
Question ID : **264330136145**
Option 1 ID : **264330533379**
Option 2 ID : **264330533382**
Option 3 ID : **264330533380**
Option 4 ID : **264330533381**
Status : **Answered**
Chosen Option : **3**

Comprehension:

In the following passage some words have been deleted. Fill in the blanks with the help of the alternatives given. Select the most appropriate option for each number.

Metal allergies can begin to act up (1) _____ minutes of putting earrings in your ears. Some people can go a few hours before having to (2) _____ the earrings out, but some can barely stand the (3) _____ enough to bother putting earrings in at all. This can be discouraging for those of us (4) _____ love to wear earrings, but fortunately hypoallergenic jewellery for (5) _____ ears exists!

SubQuestion No : 23

Q.23 Select the most appropriate option to fill in the blank No. 3.

- Ans
- 1. bomb
 - 2. burn
 - 3. knife
 - 4. discomfort

Question Type : **MCQ**
Question ID : **264330136146**
Option 1 ID : **264330533384**
Option 2 ID : **264330533383**
Option 3 ID : **264330533385**
Option 4 ID : **264330533386**
Status : **Answered**
Chosen Option : **4**

Comprehension:

In the following passage some words have been deleted. Fill in the blanks with the help of the alternatives given. Select the most appropriate option for each number.

Metal allergies can begin to act up (1) _____ minutes of putting earrings in your ears. Some people can go a few hours before having to (2) _____ the earrings out, but some can barely stand the (3) _____ enough to bother putting earrings in at all. This can be discouraging for those of us (4) _____ love to wear earrings, but fortunately hypoallergenic jewellery for (5) _____ ears exists!

SubQuestion No : 24

Q.24 Select the most appropriate option to fill in the blank No. 4.

- Ans
- 1. who
 - 2. whom
 - 3. which
 - 4. that

Question Type : MCQ

Question ID : 264330136147

Option 1 ID : 264330533388

Option 2 ID : 264330533390

Option 3 ID : 264330533387

Option 4 ID : 264330533389

Status : Answered

Chosen Option : 1

Comprehension:

In the following passage some words have been deleted. Fill in the blanks with the help of the alternatives given. Select the most appropriate option for each number.

Metal allergies can begin to act up (1) _____ minutes of putting earrings in your ears. Some people can go a few hours before having to (2) _____ the earrings out, but some can barely stand the (3) _____ enough to bother putting earrings in at all. This can be discouraging for those of us (4) _____ love to wear earrings, but fortunately hypoallergenic jewellery for (5) _____ ears exists!

SubQuestion No : 25

Q.25 Select the most appropriate option to fill in the blank No. 5.

- Ans
- 1. soft
 - 2. modern
 - 3. sensitive
 - 4. rustic

Question Type : MCQ

Question ID : 264330136148

Option 1 ID : 264330533394

Option 2 ID : 264330533391

Option 3 ID : 264330533393

Option 4 ID : 264330533392

Status : Answered

Chosen Option : 3

Multi Tasking Non Technical Staff and Havaladar CBIC and CBN Examination 2022

Roll Number	KD Job Updates
Candidate Name	KD Job Updates
Venue Name	R K Digital Computer Centre 1
Exam Date	20/06/2023
Exam Time	9:00 AM - 10:30 AM
Subject	MTS Non Tech Havaladar CBIC and CBN Examination 2022

Section : Numerical and Mathematical Ability

Q.1 एक निश्चित राशि पर चौथे वर्ष के लिए चक्रवृद्धि ब्याज (वार्षिक रूप से संयोजित) Rs. 15000 है और छठे वर्ष के लिए चक्रवृद्धि ब्याज (वार्षिक रूप से संयोजित) Rs. 25350 है। वार्षिक ब्याज दर क्या है?

- Ans
- 1. 25 प्रतिशत
 - 2. 35 प्रतिशत
 - 3. 40 प्रतिशत
 - 4. 30 प्रतिशत

Question Type : MCQ
Question ID : 264330140642
Option 1 ID : 264330550916
Option 2 ID : 264330550917
Option 3 ID : 264330550918
Option 4 ID : 264330550915
Status : Answered
Chosen Option : 4

Q.2 8 महिलाएँ एक कार्य को 15 दिनों में पूरा कर सकती हैं। यदि 2 महिलाओं को काम पर लगाया जाए, तो कार्य कितने दिनों में पूरा होगा?

- Ans
- 1. 44 दिनों में
 - 2. 60 दिनों में
 - 3. 64 दिनों में
 - 4. 80 दिनों में

Question Type : MCQ
Question ID : 264330140239
Option 1 ID : 264330549336
Option 2 ID : 264330549335
Option 3 ID : 264330549338
Option 4 ID : 264330549337
Status : Answered
Chosen Option : 2

Q.3 एक आदमी ने प्रत्येक Rs. 6075000 के मूल्य पर दो फ्लैट खरीदे। उसने एक फ्लैट 10% लाभ पर और दूसरा 15% हानि पर बेचा। कुल मिलाकर उसे कितने प्रतिशत लाभ या हानि हुई?

- Ans
- 1. 5% हानि
 - 2. 2.5% हानि
 - 3. 3% लाभ
 - 4. 5% लाभ

Question Type : MCQ
Question ID : 264330140827
Option 1 ID : 264330551657
Option 2 ID : 264330551656
Option 3 ID : 264330551658
Option 4 ID : 264330551655
Status : Answered
Chosen Option : 2

Q.4 एक व्यक्ति साधारण ब्याज पर 8 प्रतिशत वार्षिक दर पर एक निश्चित राशि ऋण पर देता है और 9 वर्षों में प्राप्त ब्याज ऋण पर दी गई राशि से Rs. 560 कम है। ऋण पर दी गई राशि कितनी है?

- Ans
- 1. Rs. 1120
 - 2. Rs. 560
 - 3. Rs. 1000
 - 4. Rs. 2000

Question Type : MCQ
Question ID : 264330140593
Option 1 ID : 264330550723
Option 2 ID : 264330550726
Option 3 ID : 264330550724
Option 4 ID : 264330550725
Status : Answered
Chosen Option : 1

Q.5 पात्र I और पात्र II में दूध और पानी का अनुपात क्रमशः 4:5 और 8:3 है। पात्र I और पात्र II के मिश्रण को किस अनुपात में मिलाया जाए जिससे प्राप्त होने वाले नए मिश्रण में दूध और पानी का अनुपात 9 : 11 हो?

- Ans
- 1. 519 : 11
 - 2. 47 : 121
 - 3. 549 : 11
 - 4. 49 : 121

Question Type : MCQ
Question ID : 264330139597
Option 1 ID : 264330546804
Option 2 ID : 264330546806
Option 3 ID : 264330546803
Option 4 ID : 264330546805
Status : Answered
Chosen Option : 3

Q.6 एक घनाभ की लंबाई उसकी चौड़ाई की आधी है और घनाभ की ऊँचाई उसकी चौड़ाई की तीन गुनी है। यदि घनाभ की चौड़ाई 12 cm है, तो घनाभ का कुल पृष्ठीय क्षेत्रफल कितना है?

- Ans
- 1. 1560 cm²
 - 2. 1440 cm²
 - 3. 1320 cm²
 - 4. 1680 cm²

Question Type : MCQ

Question ID : 264330139641

Option 1 ID : 264330546980

Option 2 ID : 264330546982

Option 3 ID : 264330546979

Option 4 ID : 264330546981

Status : Answered

Chosen Option : 3

Q.7 $\frac{44-13+17-21+45-24}{12 \div 4 - 3 \times 4 - 6 \times 2}$ का मान क्या है?

- Ans
- 1. 1
 - 2. 2
 - 3. -1
 - 4. -2

Question Type : MCQ

Question ID : 264330139644

Option 1 ID : 264330546993

Option 2 ID : 264330546992

Option 3 ID : 264330546994

Option 4 ID : 264330546991

Status : Answered

Chosen Option : 2

Q.8 वह सबसे छोटी संख्या कौनसी है जिसे 8, 10, 12 और 18 से भाग देने पर प्रत्येक स्थिति में शेषफल 5 प्राप्त होता है?

- Ans
- 1. 365
 - 2. 408
 - 3. 371
 - 4. 397

Question Type : MCQ

Question ID : 264330139603

Option 1 ID : 264330546829

Option 2 ID : 264330546828

Option 3 ID : 264330546827

Option 4 ID : 264330546830

Status : Answered

Chosen Option : 1

Q.9 यदि $A : B : C = 2 : 3 : 5$ है, तो $(A + B) : (B + C) : (C + A)$ का मान क्या है?

- Ans
- 1. 8 : 15 : 14
 - 2. 9 : 10 : 12
 - 3. 6 : 9 : 14
 - 4. 5 : 8 : 7

Question Type : MCQ

Question ID : 264330140161

Option 1 ID : 264330549026

Option 2 ID : 264330549025

Option 3 ID : 264330549024

Option 4 ID : 264330549023

Status : Answered

Chosen Option : 4

Q.10 $\left[\frac{1}{5} + \left\{ \frac{1}{6} \text{ of } \left(\frac{42}{35} \div \frac{6}{25} \right) - \left(\frac{2}{7} \times \frac{6}{5} \div \frac{18}{42} \right) \right\} + \frac{19}{30} \right]$ का मान क्या है?

- Ans
- 1. 14/15
 - 2. 11/15
 - 3. 17/15
 - 4. 13/15

Question Type : MCQ

Question ID : 264330139908

Option 1 ID : 264330548011

Option 2 ID : 264330548012

Option 3 ID : 264330548013

Option 4 ID : 264330548014

Status : Answered

Chosen Option : 4

Q.11 सपना ने एक सेल में Rs. 573.18 की एक किताब खरीदी, उसे एमआरपी (MRP) पर 18% का बड़ा मिला। किताब की एमआरपी क्या है?

- Ans
- 1. Rs. 749
 - 2. Rs. 649
 - 3. Rs. 799
 - 4. Rs. 699

Question Type : MCQ

Question ID : 264330140829

Option 1 ID : 264330551666

Option 2 ID : 264330551664

Option 3 ID : 264330551663

Option 4 ID : 264330551665

Status : Answered

Chosen Option : 1

Q.12 लड़कों के एक समूह का औसत भार 42 kg है। 48 kg भार वाला एक लड़का समूह से बाहर हो जाता है और 38 kg भार वाला एक दूसरा लड़का समूह में शामिल हो जाता है। यदि अब समूह का औसत 41 kg हो जाता है, तो समूह में कितने लड़के हैं?

- Ans**
- 1. 6
 - 2. 10
 - 3. 12
 - 4. 8

Question Type : **MCQ**

Question ID : **264330139632**

Option 1 ID : **264330546946**

Option 2 ID : **264330546944**

Option 3 ID : **264330546945**

Option 4 ID : **264330546943**

Status : **Answered**

Chosen Option : **2**

Q.13 एक आयताकार मेज के शीर्ष का परिमाण 56 मीटर है और इसका क्षेत्रफल 192 metre^2 है। इसके विकर्ण की लंबाई कितनी है?

- Ans**
- 1. 22 मीटर
 - 2. 16 मीटर
 - 3. 20 मीटर
 - 4. 18 मीटर

Question Type : **MCQ**

Question ID : **264330139945**

Option 1 ID : **264330548159**

Option 2 ID : **264330548161**

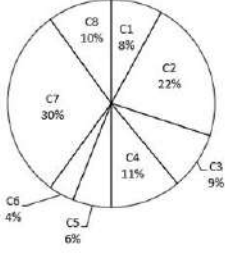
Option 3 ID : **264330548162**

Option 4 ID : **264330548160**

Status : **Answered**

Chosen Option : **2**

Q.14 नीचे दिए गए वृत्त आलेख में 8 अलग-अलग कंपनियों द्वारा बेची गई कारों की संख्या को दर्शाया गया है। इन सभी 8 कंपनियों द्वारा बेची गई कारों की कुल संख्या 2,000 है। इसमें से किसी एक विशेष कंपनी द्वारा बेची गई कारों की संख्या को इन सभी 8 कंपनियों द्वारा बेची गई कारों की कुल संख्या के प्रतिशत के रूप में दर्शाया गया है।



C1 और C2 द्वारा बेची गई कारों की औसत संख्या, C7 और C8 द्वारा बेची गई कारों की औसत संख्या से कितने प्रतिशत कम है?

- Ans
- ✓ 1. 25 प्रतिशत
 - ✗ 2. 33.33 प्रतिशत
 - ✗ 3. 66.66 प्रतिशत
 - ✗ 4. 16.66 प्रतिशत

Question Type : MCQ

Question ID : 264330139950

Option 1 ID : 264330548179

Option 2 ID : 264330548182

Option 3 ID : 264330548181

Option 4 ID : 264330548180

Status : Answered

Chosen Option : 1

Q.15 सूरज दोपहर 2 बजे बिंदु Q से अपनी यात्रा शुरू करता है। वह यात्रा के पहले तीन घंटों के लिए 40 km/hr की चाल से कार चलाता है और शेष यात्रा 30 km/hr की चाल से पूरी करता है। यदि राहुल बिंदु Q से 80 km/hr की चाल से शाम 6 बजे सूरज की ओर बढ़ना शुरू करता है, तो वह कितने बजे तक सूरज के पास पहुँच जाएगा?

- Ans
- ✗ 1. रात 9 : 15 बजे
 - ✓ 2. रात 9 : 00 बजे
 - ✗ 3. रात 10 : 06 बजे
 - ✗ 4. रात 9 : 36 बजे

Question Type : MCQ

Question ID : 264330140195

Option 1 ID : 264330549162

Option 2 ID : 264330549161

Option 3 ID : 264330549159

Option 4 ID : 264330549160

Status : Answered

Chosen Option : 1

Q.16 यदि किसी संख्या का 50 प्रतिशत 80 है, तो उस संख्या का 250 प्रतिशत कितना होगा?

- Ans
- 1. 440
 - 2. 400
 - 3. 480
 - 4. 360

Question Type : MCQ

Question ID : 264330140218

Option 1 ID : 264330549254

Option 2 ID : 264330549251

Option 3 ID : 264330549252

Option 4 ID : 264330549253

Status : Answered

Chosen Option : 2

Q.17 एक वॉटर हीटर को Rs. 320 में बेचने पर, दुकानदार को 20% की हानि होती है। यदि वह 20% का लाभ अर्जित करना चाहता है, तो उसे वॉटर हीटर को किस कीमत पर बेचना चाहिए?

- Ans
- 1. Rs. 400
 - 2. Rs. 100
 - 3. Rs. 480
 - 4. Rs. 105

Question Type : MCQ

Question ID : 264330140805

Option 1 ID : 264330551568

Option 2 ID : 264330551569

Option 3 ID : 264330551567

Option 4 ID : 264330551570

Status : Answered

Chosen Option : 3

Q.18 Rs. 20 प्रति किलोग्राम (per kg) मूल्य वाले चावल को Rs. 34 प्रति किलोग्राम मूल्य वाले चावल के साथ किस अनुपात में मिलाया जाए कि मिश्रण का मूल्य Rs. 28 प्रति किलोग्राम हो जाए?

- Ans
- 1. 2:3
 - 2. 4:1
 - 3. 1:3
 - 4. 3:4

Question Type : MCQ

Question ID : 264330133819

Option 1 ID : 264330524302

Option 2 ID : 264330524299

Option 3 ID : 264330524300

Option 4 ID : 264330524301

Status : Answered

Chosen Option : 4

Q.19 दो नल J और L अकेले एक टंकी को क्रमशः 10 मिनट और 12 मिनट में भर सकते हैं। यदि एक निकास नल K को खोल दिया जाए और सभी तीनों नल एक साथ मिलकर कार्य करें, तो वही टंकी 15 मिनट में भर जाएगी। नल K को अकेले उसी टंकी को खाली करने में कितना समय लगेगा?

- Ans
- ✓ 1. 60/7 मिनट
 - ✗ 2. 52/3 मिनट
 - ✗ 3. 58/11 मिनट
 - ✗ 4. 56/3 मिनट

Question Type : MCQ

Question ID : 264330140632

Option 1 ID : 264330550878

Option 2 ID : 264330550875

Option 3 ID : 264330550876

Option 4 ID : 264330550877

Status : Answered

Chosen Option : 3

Q.20 नीचे दी गई तालिका में 5 विभिन्न वस्तुओं का क्रय मूल्य और विक्रय मूल्य दर्शाया गया है।

वस्तु	क्रय मूल्य	विक्रय मूल्य
A	500	600
B	700	750
C	600	800
D	400	700
E	300	800

सभी वस्तुओं के कुल क्रय मूल्य और कुल विक्रय मूल्य का अनुपात कितना है?

- Ans
- ✗ 1. 37 : 50
 - ✗ 2. 50 : 39
 - ✗ 3. 49 : 72
 - ✓ 4. 50 : 73

Question Type : MCQ

Question ID : 264330140601

Option 1 ID : 264330550757

Option 2 ID : 264330550758

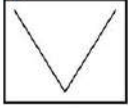
Option 3 ID : 264330550755

Option 4 ID : 264330550756

Status : Answered

Chosen Option : 4

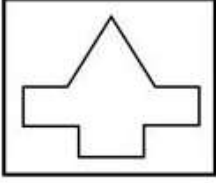
Q.1 उस विकल्प आकृति को चुनिए जिसमें दी गई आकृति (X) उसके भाग के रूप में निहित है (घूर्णन की अनुमति नहीं है)।



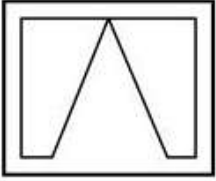
X

Ans

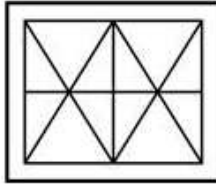
✗ 1.



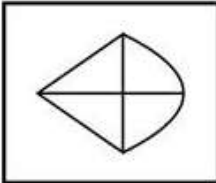
✗ 2.



✓ 3.



✗ 4.



Question Type : MCQ

Question ID : 264330140008

Option 1 ID : 264330548414

Option 2 ID : 264330548411

Option 3 ID : 264330548412

Option 4 ID : 264330548413

Status : Answered

Chosen Option : 3

Q.2 दिए गए पैटर्न का ध्यानपूर्वक अध्ययन कीजिए और उस संख्या को चुनिए जो इसमें प्रश्न चिन्ह(?) के स्थान पर आ सकती है।

पहली पंक्ति- 60, 20, 10

दूसरी पंक्ति- 90, 30, 15

तीसरी पंक्ति- 36, 12, ?

Ans ✗ 1. 8

✗ 2. 4

✗ 3. 5

✓ 4. 6

Question Type : MCQ

Question ID : 264330140426

Option 1 ID : 264330550084

Option 2 ID : 264330550086

Option 3 ID : 264330550083

Option 4 ID : 264330550085

Status : Answered

Chosen Option : 4

Q.3 उस विकल्प को चुनिए जो तीसरी संख्या से ठीक उसी तरह संबंधित है जिस तरह दूसरी संख्या पहली संख्या से संबंधित है।
110 : 23 :: 85 : ?

- Ans**
- 1. 17
 - 2. 13
 - 3. 18
 - 4. 47

Question Type : **MCQ**
Question ID : **264330135361**
Option 1 ID : **264330530352**
Option 2 ID : **264330530351**
Option 3 ID : **264330530353**
Option 4 ID : **264330530354**
Status : **Answered**
Chosen Option : **2**

Q.4 दो कथन दिए गए हैं और दो निष्कर्ष I और II दिए गए हैं। कथनों को सत्य मानते हुए, चाहे वे सामान्यतः जात तथ्यों से अलग प्रतीत होते हों, निश्चय कीजिए कि कौन-सा निष्कर्ष तार्किक रूप से कथनों के अनुसार है।
कथन:

सभी डिब्बे, घन हैं।

सभी घन, वर्ग हैं।

निष्कर्ष:

I. कुछ डिब्बे, वर्ग हैं।

II. कुछ वर्ग, घन नहीं हैं।

- Ans**
- 1. केवल निष्कर्ष II कथनों के अनुसार है।
 - 2. दोनों निष्कर्ष I और II कथनों के अनुसार हैं।
 - 3. केवल निष्कर्ष I कथनों के अनुसार है।
 - 4. न तो निष्कर्ष I और न ही II कथनों के अनुसार है।

Question Type : **MCQ**
Question ID : **264330140082**
Option 1 ID : **264330548708**
Option 2 ID : **264330548709**
Option 3 ID : **264330548707**
Option 4 ID : **264330548710**
Status : **Answered**
Chosen Option : **3**

Q.5 दी गई श्रृंखला में निम्नलिखित में से कौन-सा अक्षर प्रश्न चिन्ह (?) के स्थान पर आएगा?
J, N, H, P, F, R, D, T, B, ?

- Ans
- 1. U
 - 2. O
 - 3. V
 - 4. M

Question Type : MCQ

Question ID : 264330139991

Option 1 ID : 264330548344

Option 2 ID : 264330548345

Option 3 ID : 264330548346

Option 4 ID : 264330548343

Status : Answered

Chosen Option : 3

Q.6 नीचे दिए गए समीकरण में कौन-से गणितीय चिन्हों को आपस में बदला जाना चाहिए जिससे यह समीकरण गणितीय रूप से सही हो जाएगा?

$$14 + 63 \div 7 - 21 \times 35 = 140$$

- Ans
- 1. + और -
 - 2. + और \times
 - 3. \div और \times
 - 4. - और \times

Question Type : MCQ

Question ID : 264330140467

Option 1 ID : 264330550249

Option 2 ID : 264330550247

Option 3 ID : 264330550248

Option 4 ID : 264330550250

Status : Answered

Chosen Option : 2

Q.7 दी गई श्रृंखला में निम्नलिखित में से कौन-सी संख्या प्रश्न चिन्ह (?) के स्थान पर आएगी?
59, 63, 72, 88, 113, ?

- Ans
- 1. 149
 - 2. 139
 - 3. 159
 - 4. 141

Question Type : MCQ

Question ID : 264330140105

Option 1 ID : 264330548800

Option 2 ID : 264330548799

Option 3 ID : 264330548801

Option 4 ID : 264330548802

Status : Answered

Chosen Option : 1

Q.8 अनुज, बाला, चरणजीत, दानिश, एंङ्क, फारूक, गर्वित और हिमेश एक वर्गाकार मेज के चारों ओर केंद्र की ओर मुख करके बैठे हैं। उनमें से चार व्यक्ति मेज के प्रत्येक कोने पर बैठे हैं, जबकि अन्य चार मेज की प्रत्येक भुजा के ठीक मध्य में बैठे हैं।

एंङ्क, जो एक भुजा के मध्य में बैठा है, गर्वित के बाईं ओर से चौथे स्थान पर बैठा है। गर्वित और फारूक के बीच केवल एक व्यक्ति बैठा है। बाला, एंङ्क का निकटतम पड़ोसी है। बाला और अनुज के बीच केवल तीन व्यक्ति बैठे हैं। बाला, फारूक का पड़ोसी नहीं है। हिमेश चरणजीत के ठीक बाईं ओर बैठा है। चरणजीत, एंङ्क के दाहिनी ओर से तीसरे स्थान पर बैठा है।

दानिश के दाहिनी ओर से तीसरे स्थान पर कौन बैठा है?

- Ans
- ✓ 1. हिमेश
 - ✗ 2. बाला
 - ✗ 3. चरणजीत
 - ✗ 4. गर्वित

Question Type : MCQ

Question ID : 264330140479

Option 1 ID : 264330550297

Option 2 ID : 264330550296

Option 3 ID : 264330550295

Option 4 ID : 264330550298

Status : Not Answered

Chosen Option : --

Q.9 यदि एक दर्पण को रेखा AB पर रखा जाए, तो दी गई विकल्प आकृतियों में से कौन-सी आकृति प्रश्न आकृति का सही प्रतिबिम्ब होगी?



A B

- Ans
- ✗ 1.
 - ✓ 2.
 - ✗ 3.
 - ✗ 4.

Question Type : MCQ

Question ID : 264330140994

Option 1 ID : 264330552323

Option 2 ID : 264330552326

Option 3 ID : 264330552325

Option 4 ID : 264330552324

Status : Answered

Chosen Option : 2

Q.10 एक निश्चित कूट भाषा में, 'PARK' को 'QCSM' लिखा जाता है और 'FREE' को 'GTFG' लिखा जाता है। उस कूट भाषा में 'FAME' को कैसे लिखा जाएगा?

- Ans
- ✓ 1. GCNG
 - ✗ 2. CGNF
 - ✗ 3. GCOF
 - ✗ 4. HCNG

Question Type : MCQ
Question ID : 264330140116
Option 1 ID : 264330548845
Option 2 ID : 264330548846
Option 3 ID : 264330548844
Option 4 ID : 264330548843
Status : Answered
Chosen Option : 3

Q.11 एक निश्चित कूट भाषा में, 'RAT' को 'SCW' लिखा जाता है। उस भाषा में 'COW' को कैसे लिखा जाएगा?

- Ans
- ✗ 1. DQR
 - ✓ 2. DQZ
 - ✗ 3. DZQ
 - ✗ 4. DYZ

Question Type : MCQ
Question ID : 264330137566
Option 1 ID : 264330538874
Option 2 ID : 264330538871
Option 3 ID : 264330538872
Option 4 ID : 264330538873
Status : Answered
Chosen Option : 2

Q.12 तीन कथन दिए गए हैं और दो निष्कर्ष I और II दिए गए हैं। कथनों को सत्य मानते हुए, चाहे वे सामान्यतः ज्ञात तथ्यों से अलग प्रतीत होते हों, निश्चय कीजिए कि कौन-सा निष्कर्ष तार्किक रूप से कथनों के अनुसार है।

कथन:

कुछ मोबाइल, जमीन हैं।

कुछ जमीन, चौड़े हैं।

सभी चौड़े, लंबे हैं।

निष्कर्ष:

I. कुछ मोबाइल, लंबे हैं।

II. सभी लंबे, चौड़े हैं।

- Ans
- ✗ 1. दोनों निष्कर्ष I और II कथनों के अनुसार हैं।
 - ✗ 2. केवल निष्कर्ष II कथनों के अनुसार है।
 - ✓ 3. न तो निष्कर्ष I और न ही II कथनों के अनुसार है।
 - ✗ 4. केवल निष्कर्ष I कथनों के अनुसार है।

Question Type : MCQ
Question ID : 264330140422
Option 1 ID : 264330550069
Option 2 ID : 264330550068
Option 3 ID : 264330550070
Option 4 ID : 264330550067
Status : Answered
Chosen Option : 2

Q.13 निम्नलिखित प्रश्न में, दी गई श्रृंखला में लुप्त संख्या को चुनिए ।

55, 38, 21, 4, -13, ?

- Ans
- 1. -20
 - 2. -28
 - 3. -30
 - 4. -18

Question Type : MCQ
Question ID : 264330140064
Option 1 ID : 264330548636
Option 2 ID : 264330548637
Option 3 ID : 264330548638
Option 4 ID : 264330548635
Status : Answered
Chosen Option : 3

Q.14 दिए गए दो चिन्हों को आपस में बदलने पर निम्नलिखित में से कौन-सा समीकरण सही नहीं होगा?

+ और ×

I. $15 + 5 \div 1 - 9 \times 4 = 70$

II. $18 \times 17 + 3 - 6 \div 2 = 133$

- Ans
- 1. I और II दोनों
 - 2. केवल II
 - 3. न तो I और न ही II
 - 4. केवल I

Question Type : MCQ
Question ID : 264330140992
Option 1 ID : 264330552317
Option 2 ID : 264330552316
Option 3 ID : 264330552318
Option 4 ID : 264330552315
Status : Answered
Chosen Option : 4

Q.15 छः मित्र X, Y, J, M, N, और O एक कतार में उत्तर की ओर मुख करके खड़े हैं। Y, O के ठीक पीछे है। J, कतार में सबसे पीछे खड़ा है। M, N और X के ठीक बीच में खड़ा है। Y, X के बाद नहीं खड़ा है। कतार में आगे से चौथे स्थान पर कौन खड़ा है?

- Ans
- 1. N
 - 2. X
 - 3. Y
 - 4. M

Question Type : MCQ
Question ID : 264330140418
Option 1 ID : 264330550052
Option 2 ID : 264330550053
Option 3 ID : 264330550054
Option 4 ID : 264330550051
Status : Answered
Chosen Option : 2

Q.16 उस विकल्प को चुनिए जो तीसरे शब्द से ठीक उसी तरह संबंधित है जिस तरह दूसरा शब्द पहले शब्द से संबंधित है।
थायरॉयड : आयोडीन :: रतौंधी: ?

- Ans
- 1. विटामिन D
 - 2. विटामिन B
 - 3. विटामिन C
 - 4. विटामिन A

Question Type : MCQ

Question ID : 264330140474

Option 1 ID : 264330550278

Option 2 ID : 264330550276

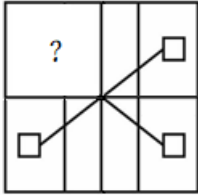
Option 3 ID : 264330550277

Option 4 ID : 264330550275

Status : Answered

Chosen Option : 4

Q.17 कौन-सी उत्तर आकृति प्रश्न आकृति में दिए गए पैटर्न को पूरा करेगी?



Ans

- 1.
- 2.
- 3.
- 4.

Question Type : MCQ

Question ID : 264330140072

Option 1 ID : 264330548669

Option 2 ID : 264330548670

Option 3 ID : 264330548668

Option 4 ID : 264330548667

Status : Answered

Chosen Option : 4

Q.18 उस विकल्प को चुनिए जो तीसरे शब्द से ठीक उसी तरह संबंधित है जिस तरह दूसरा शब्द पहले शब्द से संबंधित है।
मधुमक्खी : भिनभिना (Buzz) :: बत्तख : ?

- Ans
- 1. मिमियाना (Bleat)
 - 2. क्वाक क्वाक करना (Quack)
 - 3. चहचहाना (Chirp)
 - 4. टरटराना (Croak)

Question Type : MCQ
Question ID : 264330140433
Option 1 ID : 264330550112
Option 2 ID : 264330550113
Option 3 ID : 264330550114
Option 4 ID : 264330550111
Status : Answered
Chosen Option : 2

Q.19 एक निश्चित कूट भाषा में, 'NOTICE' को 'LMRFZB' लिखा जाता है। उस कूट भाषा में 'PARENT' को कैसे लिखा जाएगा?

- Ans
- 1. NYPBKQ
 - 2. NYQBKQ
 - 3. NYPBKR
 - 4. NYPCLR

Question Type : MCQ
Question ID : 264330139571
Option 1 ID : 264330546701
Option 2 ID : 264330546702
Option 3 ID : 264330546700
Option 4 ID : 264330546699
Status : Answered
Chosen Option : 4

Q.20 सात बहनों I, II, III, IV, V, VI और VII में से प्रत्येक का कद अलग-अलग है। I का कद केवल एक बहन से छोटा है। II केवल VII से लंबी है। तीन बहनों, IV से कद में छोटी हैं और तीन उससे लंबी हैं। V सबसे लंबी नहीं है। III कद में VI से छोटी है लेकिन V से लंबी है। सभी बहनों में तीसरे स्थान पर सबसे छोटा कद किसका है?

- Ans
- 1. IV
 - 2. I
 - 3. VI
 - 4. V

Question Type : MCQ
Question ID : 264330140081
Option 1 ID : 264330548705
Option 2 ID : 264330548704
Option 3 ID : 264330548703
Option 4 ID : 264330548706
Status : Answered
Chosen Option : 3

Q.1 भारतीय संविधान का निम्नलिखित में से कौनसा अनुच्छेद "अंतर्राष्ट्रीय शांति और सुरक्षा के प्रचार" से संबंधित है?

- Ans
- 1. अनुच्छेद 40
 - 2. अनुच्छेद 47
 - 3. अनुच्छेद 51
 - 4. अनुच्छेद 43

Question Type : MCQ
Question ID : 264330139710
Option 1 ID : 264330547255
Option 2 ID : 264330547256
Option 3 ID : 264330547258
Option 4 ID : 264330547257
Status : Not Answered
Chosen Option : --

Q.2 भारत के पड़ोसी देश अफगानिस्तान की राजधानी क्या है ?

- Ans
- 1. काठमांडू
 - 2. कंधार
 - 3. काबुल
 - 4. कराची

Question Type : MCQ
Question ID : 264330140713
Option 1 ID : 264330551200
Option 2 ID : 264330551201
Option 3 ID : 264330551202
Option 4 ID : 264330551199
Status : Answered
Chosen Option : 3

Q.3 कौनसे कोशिका अंगक अंतः कोशिकीय पाचन में सहायता करते हैं और कोशिका की "आत्मघाती थैली (suicidal bags)" के नाम से जाने जाते हैं?

- Ans
- 1. क्लोरोप्लास्ट
 - 2. सेंट्रोसोम
 - 3. लाइसोसोम
 - 4. गॉल्जीकाय (Golgi bodies)

Question Type : MCQ
Question ID : 264330140657
Option 1 ID : 264330550978
Option 2 ID : 264330550975
Option 3 ID : 264330550977
Option 4 ID : 264330550976
Status : Answered
Chosen Option : 3

Q.4 भूतल पर वह बिंदु जो भूकंप के उद्गम केंद्र के समीपतम होता है _____ कहलाता है।

- Ans
- 1. अवकेंद्र (hypocentre)
 - 2. मध्यालंकरण (centrepiece)
 - 3. अर्धकेंद्र (semi centre)
 - 4. अधिकेंद्र (epicentre)

Question Type : MCQ
Question ID : 264330140759
Option 1 ID : 264330551383
Option 2 ID : 264330551386
Option 3 ID : 264330551385
Option 4 ID : 264330551384
Status : Answered
Chosen Option : 2

Q.5 किस प्रकार की कृषि में भूमि का उपयोग भोजन व चारे की फसलें उगाने और पशुधन पालन के लिए किया जाता है?

- Ans
- 1. मिश्रित कृषि
 - 2. स्थानांतरी कृषि
 - 3. रोपण कृषि
 - 4. निर्वाह कृषि

Question Type : MCQ
Question ID : 264330139690
Option 1 ID : 264330547177
Option 2 ID : 264330547176
Option 3 ID : 264330547175
Option 4 ID : 264330547178
Status : Answered
Chosen Option : 1

Q.6 है-हक (Hai-Hak) नृत्य किस राज्य से संबंधित है?

- Ans
- 1. त्रिपुरा
 - 2. राजस्थान
 - 3. सिक्किम
 - 4. आंध्रप्रदेश

Question Type : MCQ
Question ID : 264330139866
Option 1 ID : 264330547844
Option 2 ID : 264330547846
Option 3 ID : 264330547843
Option 4 ID : 264330547845
Status : Answered
Chosen Option : 1

Q.7 "पीएम पोषण (PM POSHAN)" योजना किस मंत्रालय द्वारा लागू की गई है?

- Ans
- 1. महिला और बाल विकास मंत्रालय
 - 2. कृषि और किसान कल्याण मंत्रालय
 - 3. शिक्षा मंत्रालय
 - 4. सामाजिक न्याय मंत्रालय

Question Type : MCQ
Question ID : 264330139732
Option 1 ID : 264330547346
Option 2 ID : 264330547343
Option 3 ID : 264330547344
Option 4 ID : 264330547345
Status : Answered
Chosen Option : 1

Q.8 भारतीय संगीतकार जगजीत सिंह को संगीत/कविता की _____ शैली के पुनरुद्धार का श्रेय दिया जाता है।

- Ans
- 1. सूफी (Sufi)
 - 2. लैटिन (Latin)
 - 3. ग़ज़ल (Ghazal)
 - 4. जैज़ (Jazz)

Question Type : MCQ
Question ID : 264330140924
Option 1 ID : 264330552045
Option 2 ID : 264330552044
Option 3 ID : 264330552046
Option 4 ID : 264330552043
Status : Not Answered
Chosen Option : --

Q.9 निम्नलिखित में से कौन-सा भारत का एक जैवमण्डल संरक्षित क्षेत्र (biosphere reserve) "नहीं" है?

- Ans
- 1. गिर वन
 - 2. सुंदरबन
 - 3. ठंडा रेगिस्तान
 - 4. नीलगिरि

Question Type : MCQ
Question ID : 264330139884
Option 1 ID : 264330547918
Option 2 ID : 264330547915
Option 3 ID : 264330547917
Option 4 ID : 264330547916
Status : Answered
Chosen Option : 2

Q.10 अशोक स्तंभों का मूल उद्देश्य क्या था?

- Ans
- ✓ 1. धर्म नीतियों का प्रचार-प्रसार करना
 - ✗ 2. साम्प्रदायिक आस्था का प्रचार-प्रसार करना
 - ✗ 3. जन-धर्मांतरण का प्रचार-प्रसार करना
 - ✗ 4. भेरीघोष का प्रचार-प्रसार करना

Question Type : MCQ
Question ID : 264330140380
Option 1 ID : 264330549900
Option 2 ID : 264330549901
Option 3 ID : 264330549902
Option 4 ID : 264330549899
Status : Answered
Chosen Option : 1

Q.11 निम्नलिखित में से किसे कुश्ती के लिए "मेजर ध्यानचंद खेल रत्न पुरस्कार 2021 (Major Dhyan Chand Khel Ratna Award 2021)" से सम्मानित किया गया है?

- Ans
- ✗ 1. सुनील छेत्री
 - ✓ 2. रवि कुमार
 - ✗ 3. मनप्रीत सिंह
 - ✗ 4. नीरज चोपड़ा

Question Type : MCQ
Question ID : 264330139651
Option 1 ID : 264330547021
Option 2 ID : 264330547019
Option 3 ID : 264330547022
Option 4 ID : 264330547020
Status : Answered
Chosen Option : 2

Q.12 Which of the following books is authored by Indu Sundaresan?

- Ans
- ✗ 1. The One You Cannot Have
 - ✗ 2. Ajaya: Rise of Kali
 - ✓ 3. The Feast of Roses
 - ✗ 4. The Secret of the Nagas

Question Type : MCQ
Question ID : 264330140886
Option 1 ID : 264330551891
Option 2 ID : 264330551894
Option 3 ID : 264330551892
Option 4 ID : 264330551893
Status : Answered
Chosen Option : 3

Q.13 निम्नलिखित में से कौन-सा कृत्रिम पारितंत्र (artificial ecosystem) का एक उदाहरण है?

- Ans
- ✗ 1. मूँगा चट्टानें
 - ✗ 2. घास के मैदान
 - ✓ 3. जल जीवशाला/ मत्स्यालय
 - ✗ 4. रेगिस्तान

Question Type : MCQ
Question ID : 264330140658
Option 1 ID : 264330550979
Option 2 ID : 264330550980
Option 3 ID : 264330550981
Option 4 ID : 264330550982
Status : Answered
Chosen Option : 3

Q.14 करेंसी नोट और सिक्कों को _____ कहते हैं।

- Ans
- ✗ 1. निकट मुद्रा (near money)
 - ✗ 2. विश्वास्य मुद्रा (fiduciary money)
 - ✗ 3. कमोडिटी मनी (commodity money)
 - ✓ 4. कागज़ी मुद्रा (fiat money)

Question Type : MCQ
Question ID : 264330138981
Option 1 ID : 264330544532
Option 2 ID : 264330544534
Option 3 ID : 264330544533
Option 4 ID : 264330544531
Status : Answered
Chosen Option : 2

Q.15 राजस्थान का गणगौर पर्व किस देवी-देवता से संबंधित है?

- Ans
- ✗ 1. भगवान विष्णु और देवी लक्ष्मी
 - ✗ 2. भगवान सूर्य और देवी प्रभा
 - ✓ 3. भगवान शिव और देवी पार्वती
 - ✗ 4. भगवान राम और देवी सीता

Question Type : MCQ
Question ID : 264330140882
Option 1 ID : 264330551877
Option 2 ID : 264330551878
Option 3 ID : 264330551875
Option 4 ID : 264330551876
Status : Answered
Chosen Option : 1

Q.16 राष्ट्रीय ध्वज और राष्ट्रगान का सम्मान प्रत्येक भारतीय नागरिक का _____ है।

- Ans
- 1. राज्य का नीति निर्देशक तत्व
 - 2. कानूनी अधिकार
 - 3. मौलिक अधिकार
 - 4. मौलिक कर्तव्य

Question Type : MCQ
Question ID : 264330140387
Option 1 ID : 264330549927
Option 2 ID : 264330549928
Option 3 ID : 264330549930
Option 4 ID : 264330549929
Status : Answered
Chosen Option : 4

Q.17 निम्नलिखित में से कौन-सा उपन्यास चेतन भगत द्वारा लिखा गया है?

- Ans
- 1. अवर स्टोरी नीड्स नो फिल्टर (Our Story Needs No Filter)
 - 2. अनटचेबल्स (Untouchables)
 - 3. द व्हाइट टाइगर (The White Tiger)
 - 4. द थ्री मिस्टेक्स ऑफ माय लाइफ (The 3 Mistakes of My Life)

Question Type : MCQ
Question ID : 264330139703
Option 1 ID : 264330547229
Option 2 ID : 264330547228
Option 3 ID : 264330547230
Option 4 ID : 264330547227
Status : Answered
Chosen Option : 3

Q.18 भक्ति संत, नयनार (Nayanars) निम्नलिखित में से किस देवता के भक्त थे?

- Ans
- 1. विष्णु
 - 2. मुरुगन
 - 3. शिव
 - 4. इंद्र

Question Type : MCQ
Question ID : 264330140289
Option 1 ID : 264330549535
Option 2 ID : 264330549536
Option 3 ID : 264330549537
Option 4 ID : 264330549538
Status : Not Answered
Chosen Option : --

Q.19 "द इन्विजिबल मैन (The Invisible Man)" प्रसिद्ध लेखक _____ द्वारा लिखित एक विज्ञान कथा उपन्यास है।

- Ans
- 1. अगाथा क्रिस्टी (Agatha Christie)
 - 2. जूल्स वर्न (Jules Verne)
 - 3. हर्बर्ट जॉर्ज वेल्स (Herbert George Wells)
 - 4. विलियम शेक्सपियर (William Shakespeare)

Question Type : MCQ
Question ID : 264330140718
Option 1 ID : 264330551220
Option 2 ID : 264330551222
Option 3 ID : 264330551219
Option 4 ID : 264330551221
Status : Not Answered
Chosen Option : --

Q.20 कितने देश भारत के साथ भूमि सीमा साझा करते हैं?

- Ans
- 1. छः
 - 2. सात
 - 3. पाँच
 - 4. आठ

Question Type : MCQ
Question ID : 264330138990
Option 1 ID : 264330544568
Option 2 ID : 264330544569
Option 3 ID : 264330544567
Option 4 ID : 264330544570
Status : Answered
Chosen Option : 1

Q.21 हिंदुस्तान सोशलिस्ट रिपब्लिकन एसोसिएशन (HSRA) की स्थापना सन् _____ में हुई थी।

- Ans
- 1. 1928
 - 2. 1924
 - 3. 1917
 - 4. 1922

Question Type : MCQ
Question ID : 264330140383
Option 1 ID : 264330549913
Option 2 ID : 264330549911
Option 3 ID : 264330549912
Option 4 ID : 264330549914
Status : Not Answered
Chosen Option : --

Q.22 _____ में देश भर के 72 प्रतिनिधियों ने बम्बई में सभा करके भारतीय राष्ट्रीय कांग्रेस की स्थापना का फैसला लिया।

- Ans
- 1. 1872
 - 2. 1885
 - 3. 1858
 - 4. 1890

Question Type : MCQ
Question ID : 264330141061
Option 1 ID : 264330552593
Option 2 ID : 264330552591
Option 3 ID : 264330552594
Option 4 ID : 264330552592
Status : Not Answered
Chosen Option : --

Q.23 इंडो-इस्लामिक वास्तुकला की "दोहरे गुंबद (Double Dome)" वाली विशेषता दिल्ली सल्तनत के किस वंश द्वारा शुरू की गई थी?

- Ans
- 1. गुलाम वंश
 - 2. लोदी वंश
 - 3. तुगलक वंश
 - 4. खिलजी वंश

Question Type : MCQ
Question ID : 264330140680
Option 1 ID : 264330551070
Option 2 ID : 264330551069
Option 3 ID : 264330551067
Option 4 ID : 264330551068
Status : Answered
Chosen Option : 3

Q.24 किस खिलाड़ी को "फ्लाइंग सिख (Flying Sikh)" के नाम से जाना जाता है?

- Ans
- 1. युवराज सिंह
 - 2. मिल्खा सिंह
 - 3. अर्शदीप सिंह
 - 4. हरभजन सिंह

Question Type : MCQ
Question ID : 264330140674
Option 1 ID : 264330551045
Option 2 ID : 264330551043
Option 3 ID : 264330551044
Option 4 ID : 264330551046
Status : Answered
Chosen Option : 2

Q.25 निम्नलिखित में से किस त्योहार का संबंध अरुणाचल प्रदेश से है?

- Ans
- ✓ 1. सोलुंग (Solung)
 - ✗ 2. उगादि (Ugadi)
 - ✗ 3. पोंगल (Pongal)
 - ✗ 4. वांगला (Wangala)

Question Type : MCQ
Question ID : 264330140909
Option 1 ID : 264330551984
Option 2 ID : 264330551985
Option 3 ID : 264330551986
Option 4 ID : 264330551983
Status : Answered
Chosen Option : 3

Section : English Language and Comprehension

Q.1 Select the word segment that substitutes (replaces) the bracketed word segment correctly and completes the sentence meaningfully. Select the option 'no correction required' if the sentence is correct as given.
He was pleased to see them, especially as (Alice was disposed off to) be sympathetic rather than critical.

- Ans
- ✗ 1. Alice was disposed to of
 - ✗ 2. No correction required
 - ✗ 3. Alice was disposed of to
 - ✓ 4. Alice was inclined to

Question Type : MCQ
Question ID : 264330136166
Option 1 ID : 264330533465
Option 2 ID : 264330533466
Option 3 ID : 264330533464
Option 4 ID : 264330533463
Status : Answered
Chosen Option : 3

Q.2 Choose the incorrectly spelt word.

- Ans
- ✗ 1. Interest
 - ✗ 2. Count
 - ✓ 3. Wsated
 - ✗ 4. Slim

Question Type : MCQ
Question ID : 264330141183
Option 1 ID : 264330553071
Option 2 ID : 264330553073
Option 3 ID : 264330553072
Option 4 ID : 264330553074
Status : Answered
Chosen Option : 4

Q.3 Select the word from the options which is exactly opposite in meaning to the bracketed word given in the sentence below.

Hermione was pointing to the (nearest) window.

- Ans** 1. remote
 2. convenient
 3. adjacent
 4. abutting

Question Type : **MCQ**
Question ID : **264330136128**
Option 1 ID : **264330533317**
Option 2 ID : **264330533316**
Option 3 ID : **264330533315**
Option 4 ID : **264330533318**
Status : **Answered**
Chosen Option : **2**

Q.4 Select the word segment that substitutes (replaces) the bracketed word segment correctly and completes the sentence meaningfully. Select the option 'no correction required' if the sentence is correct as given.
She (had a reputation) brilliance.

- Ans** 1. have a reputation for
 2. has a reputation for
 3. has a reputation of
 4. No correction required

Question Type : **MCQ**
Question ID : **264330135848**
Option 1 ID : **264330532260**
Option 2 ID : **264330532259**
Option 3 ID : **264330532261**
Option 4 ID : **264330532262**
Status : **Answered**
Chosen Option : **1**

Q.5 Fill in the blank with the most appropriate option.
Though poor, he _____ proud of his learning.

- Ans** 1. were
 2. could became
 3. was
 4. have been

Question Type : **MCQ**
Question ID : **264330136141**
Option 1 ID : **264330533368**
Option 2 ID : **264330533370**
Option 3 ID : **264330533367**
Option 4 ID : **264330533369**
Status : **Answered**
Chosen Option : **3**

Q.6 Select the most appropriate option to fill in the blank.

The wounds on my back are no longer fresh, but, somehow, they still _____.

- Ans**
- 1. enrich
 - 2. barge
 - 3. revamp
 - 4. hurt

Question Type : **MCQ**
Question ID : **264330135255**
Option 1 ID : **264330529939**
Option 2 ID : **264330529942**
Option 3 ID : **264330529940**
Option 4 ID : **264330529941**
Status : **Answered**
Chosen Option : **4**

Q.7 Identify the segment that contains a grammatical error. If there is no error, select 'No error'.

Time is the greater / eraser, both of / sorrow and of joy.

- Ans**
- 1. Time is the greater
 - 2. No error
 - 3. sorrow and of joy.
 - 4. eraser, both of

Question Type : **MCQ**
Question ID : **264330135846**
Option 1 ID : **264330532251**
Option 2 ID : **264330532254**
Option 3 ID : **264330532253**
Option 4 ID : **264330532252**
Status : **Answered**
Chosen Option : **1**

Q.8 The statement below has been given with bracketed text. Select the option with correct idiom for the bracketed text.

She started repaying the money she borrowed from me, but the amount she returned me is (insignificant compared) to what she still owes.

- Ans**
- 1. a drop in a bucket
 - 2. eat out of your hand
 - 3. jaw dropping
 - 4. an eye for an eye

Question Type : **MCQ**
Question ID : **264330136130**
Option 1 ID : **264330533326**
Option 2 ID : **264330533323**
Option 3 ID : **264330533325**
Option 4 ID : **264330533324**
Status : **Answered**
Chosen Option : **1**

Q.9 Identify the segment that contains a grammatical error. If there is no error, select 'No error'.

'I'm going to get / start on some / homework,' said the professor angrily.

Ans 1. homework,' said the professor angrily.

2. I'm going to get

3. No error

4. start on some

Question Type : **MCQ**

Question ID : **264330136163**

Option 1 ID : **264330533453**

Option 2 ID : **264330533451**

Option 3 ID : **264330533454**

Option 4 ID : **264330533452**

Status : **Answered**

Chosen Option : **4**

Q.10 Choose the word that means the same as the given word.

Habitant

Ans 1. Exile

2. Endemic

3. Denizen

4. Transient

Question Type : **MCQ**

Question ID : **264330135654**

Option 1 ID : **264330531511**

Option 2 ID : **264330531512**

Option 3 ID : **264330531514**

Option 4 ID : **264330531513**

Status : **Answered**

Chosen Option : **4**

Q.11 Select the most appropriate synonym of the given word.

Support

Ans 1. Spine

2. Release

3. Refuse

4. Bolster

Question Type : **MCQ**

Question ID : **264330135731**

Option 1 ID : **264330531810**

Option 2 ID : **264330531809**

Option 3 ID : **264330531807**

Option 4 ID : **264330531808**

Status : **Answered**

Chosen Option : **3**

Q.12 Fill in the blank with the most appropriate option.

I was _____ and was suddenly woken up by the loud noise of crackers bursting.

- Ans
- 1. quiet asleep
 - 2. fast asleep
 - 3. long asleep
 - 4. quite asleep

Question Type : **MCQ**
Question ID : **264330135713**
Option 1 ID : **264330531739**
Option 2 ID : **264330531742**
Option 3 ID : **264330531741**
Option 4 ID : **264330531740**
Status : **Answered**
Chosen Option : **4**

Q.13 Select the most appropriate antonym of the given word.

Incompetence

- Ans
- 1. Interfere
 - 2. Efficient
 - 3. Caustic
 - 4. Attitude

Question Type : **MCQ**
Question ID : **264330135759**
Option 1 ID : **264330531918**
Option 2 ID : **264330531916**
Option 3 ID : **264330531917**
Option 4 ID : **264330531915**
Status : **Answered**
Chosen Option : **1**

Q.14 Select the most appropriate word for the given group of words.

A building where animals are butchered

- Ans
- 1. Apologue
 - 2. Arbitrator
 - 3. Abattoir
 - 4. Apostate

Question Type : **MCQ**
Question ID : **264330135678**
Option 1 ID : **264330531604**
Option 2 ID : **264330531603**
Option 3 ID : **264330531606**
Option 4 ID : **264330531605**
Status : **Answered**
Chosen Option : **1**

Q.15 Identify the segment that contains a grammatical error. If there is no error, select 'No error'

He spent a great deal of time/ writing on his legal pad and aggressive/ underlining whatever he was writing.

- Ans**
- 1. No error
 - 2. He spent a great deal of time
 - 3. underlining whatever he was writing.
 - 4. writing on his legal pad and aggressive

Question Type : **MCQ**
Question ID : **264330135663**
Option 1 ID : **264330531550**
Option 2 ID : **264330531547**
Option 3 ID : **264330531549**
Option 4 ID : **264330531548**
Status : **Answered**
Chosen Option : **3**

Q.16 Four sentences are given, out of which three have spelling errors. Choose the sentence with all correctly spelled words.

- Ans**
- 1. It was a letter that was shot throught with the writer's personality.
 - 2. There is plenty of student accomodation in Edinburgh.
 - 3. Their skilled colleague soon satisfied them that they were wrong.
 - 4. He advised the government not to persue a gas deal with that company.

Question Type : **MCQ**
Question ID : **264330136132**
Option 1 ID : **264330533333**
Option 2 ID : **264330533331**
Option 3 ID : **264330533334**
Option 4 ID : **264330533332**
Status : **Not Answered**
Chosen Option : **--**

Q.17 Select the most appropriate meaning of the given idiom.

To eat crow

- Ans**
- 1. To take money back
 - 2. To admit that one is wrong
 - 3. To become non-vegetarian
 - 4. To take great care

Question Type : **MCQ**
Question ID : **264330136155**
Option 1 ID : **264330533422**
Option 2 ID : **264330533421**
Option 3 ID : **264330533419**
Option 4 ID : **264330533420**
Status : **Answered**
Chosen Option : **3**

Q.18 Fill in the blank with the most appropriate option.

He ruled well but _____, making closer friends with justice than with mercy.

- Ans**
- 1. watches
 - 2. watchfully
 - 3. watch
 - 4. watching

Question Type : **MCQ**
Question ID : **264330136142**
Option 1 ID : **264330533373**
Option 2 ID : **264330533374**
Option 3 ID : **264330533372**
Option 4 ID : **264330533371**
Status : **Not Answered**
Chosen Option : --

Q.19 Select the word segment that substitutes (replaces) the bracketed word segment correctly and completes the sentence meaningfully. Select the option 'no correction required' if the sentence is correct as given.
(The big the house), the more difficult it is to maintain it.

- Ans**
- 1. The biggest the house
 - 2. No correction required
 - 3. The bigger the house
 - 4. The big house

Question Type : **MCQ**
Question ID : **264330135849**
Option 1 ID : **264330532263**
Option 2 ID : **264330532266**
Option 3 ID : **264330532265**
Option 4 ID : **264330532264**
Status : **Answered**
Chosen Option : **4**

Q.20 Select the most appropriate word for the given group of words.

Having a sharply strong taste or smell

- Ans**
- 1. Pungent
 - 2. Remorse
 - 3. Alchemy
 - 4. Satire

Question Type : **MCQ**
Question ID : **264330136757**
Option 1 ID : **264330535734**
Option 2 ID : **264330535733**
Option 3 ID : **264330535731**
Option 4 ID : **264330535732**
Status : **Not Answered**
Chosen Option : --

Comprehension:

In the following passage some words have been deleted. Fill in the blanks with the help of the alternatives given. Select the most appropriate option for each number.

Do you live in a house? You might be (1) _____ to learn that there are many, many kinds of (2) _____. Most people in the United States are used to live in houses made of wood or bricks. But many people around the world live in houses made of grass, dirt, or cloth.

In the Great Rift Valley of Eritrea, the nomadic people who are in the Atrtribe build their houses of straw. Their houses are shaped like (3) _____ – half spheres. The homes are small and cool. The people can move their houses when they want to move. Since the people are (4) _____, they move often. They (5) _____ their animals to new places in order to find food.

SubQuestion No : 21

Q.21 Select the most appropriate option to fill in the blank No. 1.

- Ans**
- 1. surprised
 - 2. calculable
 - 3. socked
 - 4. certain

Question Type : **MCQ**

Question ID : **264330135828**

Option 1 ID : **264330532181**

Option 2 ID : **264330532179**

Option 3 ID : **264330532182**

Option 4 ID : **264330532180**

Status : **Answered**

Chosen Option : **1**

Comprehension:

In the following passage some words have been deleted. Fill in the blanks with the help of the alternatives given. Select the most appropriate option for each number.

Do you live in a house? You might be (1) _____ to learn that there are many, many kinds of (2) _____. Most people in the United States are used to live in houses made of wood or bricks. But many people around the world live in houses made of grass, dirt, or cloth.

In the Great Rift Valley of Eritrea, the nomadic people who are in the Atrtribe build their houses of straw. Their houses are shaped like (3) _____ – half spheres. The homes are small and cool. The people can move their houses when they want to move. Since the people are (4) _____, they move often. They (5) _____ their animals to new places in order to find food.

SubQuestion No : 22

Q.22 Select the most appropriate option to fill in the blank No. 2.

- Ans**
- 1. bead houses
 - 2. birdhouses
 - 3. backhouses
 - 4. houses

Question Type : **MCQ**

Question ID : **264330135829**

Option 1 ID : **264330532185**

Option 2 ID : **264330532186**

Option 3 ID : **264330532183**

Option 4 ID : **264330532184**

Status : **Answered**

Chosen Option : **1**

Comprehension:

In the following passage some words have been deleted. Fill in the blanks with the help of the alternatives given. Select the most appropriate option for each number.

Do you live in a house? You might be (1) _____ to learn that there are many, many kinds of (2) _____. Most people in the United States are used to live in houses made of wood or bricks. But many people around the world live in houses made of grass, dirt, or cloth.

In the Great Rift Valley of Eritrea, the nomadic people who are in the Atrribe build their houses of straw. Their houses are shaped like (3) _____ – half spheres. The homes are small and cool. The people can move their houses when they want to move. Since the people are (4) _____, they move often. They (5) _____ their animals to new places in order to find food.

SubQuestion No : 23

Q.23 Select the most appropriate option to fill in the blank No. 3.

- Ans**
- 1. domes
 - 2. vault
 - 3. pantheon
 - 4. stars

Question Type : **MCQ**

Question ID : **264330135830**

Option 1 ID : **264330532188**

Option 2 ID : **264330532187**

Option 3 ID : **264330532189**

Option 4 ID : **264330532190**

Status : **Not Answered**

Chosen Option : --

Comprehension:

In the following passage some words have been deleted. Fill in the blanks with the help of the alternatives given. Select the most appropriate option for each number.

Do you live in a house? You might be (1) _____ to learn that there are many, many kinds of (2) _____. Most people in the United States are used to live in houses made of wood or bricks. But many people around the world live in houses made of grass, dirt, or cloth.

In the Great Rift Valley of Eritrea, the nomadic people who are in the Atrribe build their houses of straw. Their houses are shaped like (3) _____ – half spheres. The homes are small and cool. The people can move their houses when they want to move. Since the people are (4) _____, they move often. They (5) _____ their animals to new places in order to find food.

SubQuestion No : 24

Q.24 Select the most appropriate option to fill in the blank No. 4.

- Ans**
- 1. nomads
 - 2. creative
 - 3. ill
 - 4. lost

Question Type : **MCQ**

Question ID : **264330135831**

Option 1 ID : **264330532193**

Option 2 ID : **264330532194**

Option 3 ID : **264330532192**

Option 4 ID : **264330532191**

Status : **Not Answered**

Chosen Option : --

Comprehension:

In the following passage some words have been deleted. Fill in the blanks with the help of the alternatives given. Select the most appropriate option for each number.

Do you live in a house? You might be (1) _____ to learn that there are many, many kinds of (2) _____. Most people in the United States are used to live in houses made of wood or bricks. But many people around the world live in houses made of grass, dirt, or cloth.

In the Great Rift Valley of Eritrea, the nomadic people who are in the Atrtribe build their houses of straw. Their houses are shaped like (3) _____ – half spheres. The homes are small and cool. The people can move their houses when they want to move. Since the people are (4) _____, they move often. They (5) _____ their animals to new places in order to find food.

SubQuestion No : 25

Q.25 Select the most appropriate option to fill in the blank No. 5.

- Ans**
- 1. fetch
 - 2. take
 - 3. share
 - 4. offer

Question Type : **MCQ**

Question ID : **264330135832**

Option 1 ID : **264330532196**

Option 2 ID : **264330532195**

Option 3 ID : **264330532197**

Option 4 ID : **264330532198**

Status : **Answered**

Chosen Option : **2**

Multi Tasking Non Technical Staff and Havaladar CBIC and CBN Examination 2022

Roll Number	KD Job Updates
Candidate Name	KD Job Updates
Venue Name	iON Digital Zone iDZ 1 Sector 62
Exam Date	20/06/2023
Exam Time	3:30 PM - 5:00 PM
Subject	MTS Non Tech Havaladar CBIC and CBN Examination 2022

Section : Numerical and Mathematical Ability

Q.1 $\frac{13 \times 14 + 25 \times 14 - 38 \times 14}{14 \times 2 - 7}$ का मान क्या है?

- Ans 1. 0
 2. 14
 3. 7
 4. 1

Question Type : MCQ

Question ID : 264330140189

Option 1 ID : 264330549135

Option 2 ID : 264330549137

Option 3 ID : 264330549138

Option 4 ID : 264330549136

Status : Answered

Chosen Option : 1

Q.2 नीचे दी गई तालिका में 5 बल्लेबाजों द्वारा बनाए गए रनों की संख्या और खेले गई गेंदों की संख्या को दर्शाया गया है।

बल्लेबाज	बनाए गए रनों की संख्या	खेले गई गेंदों की संख्या
P	70	25
Q	80	60
R	90	50
S	110	160
T	40	40

$$\text{Strike rate} = \frac{\text{Number of runs scored}}{\text{Number of balls played}} \times 100$$

स्ट्राइक रेट = (बनाए गए रनों की संख्या/खेले गई गेंदों की संख्या) x 100

किस बल्लेबाज का स्ट्राइक रेट सबसे अधिक है?

- Ans
- 1. S
 - 2. R
 - 3. P
 - 4. Q

Question Type : MCQ

Question ID : 264330139969

Option 1 ID : 264330548258

Option 2 ID : 264330548255

Option 3 ID : 264330548256

Option 4 ID : 264330548257

Status : Answered

Chosen Option : 4

Q.3 रोहन साधारण ब्याज पर एक निश्चित राशि ऋण पर लेता है। ब्याज दर, पहले 3 वर्षों के लिए 3 प्रतिशत वार्षिक, अगले 5 वर्षों के लिए 4 प्रतिशत वार्षिक और अगले 7 वर्षों के लिए 6 प्रतिशत वार्षिक है। यदि वह ब्याज के रूप में Rs.2485 का भुगतान करता है, तो ऋण पर ली गई राशि कितनी है?

- Ans
- 1. Rs. 2500
 - 2. Rs. 4000
 - 3. Rs. 3500
 - 4. Rs. 3600

Question Type : MCQ

Question ID : 264330139902

Option 1 ID : 264330547988

Option 2 ID : 264330547987

Option 3 ID : 264330547989

Option 4 ID : 264330547990

Status : Answered

Chosen Option : 3

Q.4 एक शेल्फ में, सफ़ेद कवर वाली पुस्तकें और नारंगी कवर वाली पुस्तकें 12:21 के अनुपात में हैं। यदि नारंगी कवर वाली 945 पुस्तकें हैं, तो सफ़ेद कवर वाली पुस्तकों की संख्या है:

- Ans
- 1. 1485
 - 2. 540
 - 3. 840
 - 4. 645

Question Type : MCQ
Question ID : 264330139046
Option 1 ID : 264330544791
Option 2 ID : 264330544792
Option 3 ID : 264330544794
Option 4 ID : 264330544793
Status : Answered
Chosen Option : 2

Q.5 $\{15 \times 32 \div 2 \times 5\} \div X = 16$ के लिए X का मान ज्ञात कीजिए।

- Ans
- 1. 78
 - 2. 75
 - 3. 55
 - 4. 76

Question Type : MCQ
Question ID : 264330140777
Option 1 ID : 264330551455
Option 2 ID : 264330551457
Option 3 ID : 264330551458
Option 4 ID : 264330551456
Status : Answered
Chosen Option : 2

Q.6 यदि P का 60 प्रतिशत = Q का $(6/7)$ है, तो P : Q का मान क्या है?

- Ans
- 1. 18 : 5
 - 2. 9 : 5
 - 3. 10 : 7
 - 4. 17 : 19

Question Type : MCQ
Question ID : 264330140616
Option 1 ID : 264330550813
Option 2 ID : 264330550812
Option 3 ID : 264330550811
Option 4 ID : 264330550814
Status : Answered
Chosen Option : 3

Q.7 एक कमरे की लंबाई, चौड़ाई, ऊँचाई क्रमशः 6 m, 4 m 80 cm और 3 m 60 cm है। उस सबसे लंबे टेप की लंबाई ज्ञात कीजिए जो कमरे के आयामों को सटीक रूप से माप सकता है।

- Ans
- 1. 1 m 50 cm
 - 2. 1 m 80 cm
 - 3. 1 m 40 cm
 - 4. 1 m 20 cm

Question Type : MCQ

Question ID : 264330139031

Option 1 ID : 264330544731

Option 2 ID : 264330544733

Option 3 ID : 264330544732

Option 4 ID : 264330544734

Status : Answered

Chosen Option : 3

Q.8 एक आयत का परिमाण 30 cm है। यदि आयत की लम्बाई उसकी चौड़ाई की दुगुनी है, तो उसके विकर्ण की लम्बाई क्या है?

- Ans
- 1. $5\sqrt{4}$ cm
 - 2. $3\sqrt{2}$ cm
 - 3. $5\sqrt{5}$ cm
 - 4. $4\sqrt{5}$ cm

Question Type : MCQ

Question ID : 264330140167

Option 1 ID : 264330549050

Option 2 ID : 264330549047

Option 3 ID : 264330549049

Option 4 ID : 264330549048

Status : Answered

Chosen Option : 3

Q.9 P अकेले किसी कार्य को 10 दिनों में कर सकता है, Q अकेले उसी कार्य को 15 दिनों में कर सकता है और R अकेले उसी कार्य को 12 दिनों में कर सकता है। वे साथ मिलकर कार्य पूरा करते हैं और Rs.3000 कमाते हैं। इसमें R का हिस्सा कितना है?

- Ans
- 1. Rs. 1200
 - 2. Rs. 1500
 - 3. Rs. 1000
 - 4. Rs. 800

Question Type : MCQ

Question ID : 264330140173

Option 1 ID : 264330549072

Option 2 ID : 264330549074

Option 3 ID : 264330549071

Option 4 ID : 264330549073

Status : Answered

Chosen Option : 3

Q.10 एक व्यापारी Rs. 30 per kg मूल्य वाले 20 किलो चावल को दूसरी किस्म के Rs. 30 per kg मूल्य वाले 20 किलो चावल के साथ मिलाता है और मिश्रण को Rs. 33 per kg के मूल्य पर बेचता है। उसका लाभ प्रतिशत है:

- Ans
- 1. 18%
 - 2. 20%
 - 3. 10%
 - 4. 12%

Question Type : MCQ

Question ID : 264330140804

Option 1 ID : 264330551565

Option 2 ID : 264330551566

Option 3 ID : 264330551563

Option 4 ID : 264330551564

Status : Answered

Chosen Option : 3

Q.11 शिवम ने दो घड़ियाँ खरीदीं, पहली Rs. 12000 में और दूसरी Rs. 16000 में। उसने दोनों घड़ियाँ बेच दीं, पहली 10 प्रतिशत के लाभ पर और दूसरी 10 प्रतिशत की हानि पर। कुल हानि या लाभ कितना है?

- Ans
- 1. लाभ = Rs. 200
 - 2. लाभ = Rs. 600
 - 3. हानि = Rs. 400
 - 4. हानि = Rs. 800

Question Type : MCQ

Question ID : 264330139635

Option 1 ID : 264330546955

Option 2 ID : 264330546956

Option 3 ID : 264330546957

Option 4 ID : 264330546958

Status : Answered

Chosen Option : 3

Q.12 एक कार क्रमशः 20 km/hr, 40 km/hr और 60 km/hr की चाल से 2 km की 3 क्रमिक दूरियाँ तय करती है। कार की औसत चाल है:

- Ans
- 1. 32.72 km/hr
 - 2. 42.12 km/hr
 - 3. 40.50 km/hr
 - 4. 38.56 km/hr

Question Type : MCQ

Question ID : 264330139040

Option 1 ID : 264330544767

Option 2 ID : 264330544768

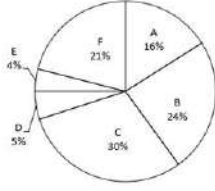
Option 3 ID : 264330544770

Option 4 ID : 264330544769

Status : Answered

Chosen Option : 1

Q.13 नीचे दिए गए वृत्त आलेख में 6 अलग-अलग कारखानों द्वारा किए गए उत्पादन को दर्शाया गया है। इन सभी 6 कारखानों द्वारा किया गया कुल उत्पादन 1400 है। इनमें से किसी एक विशिष्ट कारखाने द्वारा किए गए उत्पादन को इन सभी 6 कारखानों द्वारा किए गए कुल उत्पादन के प्रतिशत के रूप में दर्शाया गया है।



निम्नलिखित में से कौन-सा कथन सही है?

- I. वृत्तखंड A और C द्वारा मिलकर बनाया गया केंद्रीय कोण 156.6° है।
- II. वृत्तखंड B, D और F द्वारा मिलकर बनाया गया केंद्रीय कोण 180° है।

- Ans**
- 1. I और II दोनों
 - 2. केवल I
 - 3. न तो I और न ही II
 - 4. केवल II

Question Type : **MCQ**
 Question ID : **264330140212**
 Option 1 ID : **264330549229**
 Option 2 ID : **264330549227**
 Option 3 ID : **264330549230**
 Option 4 ID : **264330549228**
 Status : **Answered**
 Chosen Option : **4**

Q.14 पीतल में ताँबे और जस्ते का अनुपात 7 : 3 है। 200 kg पीतल में ताँबे की कितनी मात्रा होगी?

- Ans**
- 1. 120 kg
 - 2. 140 kg
 - 3. 60 kg
 - 4. 160 kg

Question Type : **MCQ**
 Question ID : **264330139636**
 Option 1 ID : **264330546959**
 Option 2 ID : **264330546961**
 Option 3 ID : **264330546960**
 Option 4 ID : **264330546962**
 Status : **Answered**
 Chosen Option : **2**

Q.15 1.3 किलोमीटर प्रति घंटे को मीटर प्रति सेकंड में बदलें।

- Ans
- ✗ 1. 11/54 m/s
 - ✗ 2. 14/48 m/s
 - ✗ 3. 13/65 m/s
 - ✓ 4. 13/36 m/s

Question Type : MCQ

Question ID : 264330140789

Option 1 ID : 264330551505

Option 2 ID : 264330551504

Option 3 ID : 264330551506

Option 4 ID : 264330551503

Status : Answered

Chosen Option : 4

Q.16 एक घनाभ की लंबाई और चौड़ाई का योग 40 cm है। यदि घनाभ की ऊँचाई उसकी लंबाई और चौड़ाई के योग का 1/5 भाग है, तो घनाभ का पार्श्व पृष्ठीय क्षेत्रफल क्या है?

- Ans
- ✓ 1. 640 cm^2
 - ✗ 2. 320 cm^2
 - ✗ 3. 580 cm^2
 - ✗ 4. 720 cm^2

Question Type : MCQ

Question ID : 264330139904

Option 1 ID : 264330547998

Option 2 ID : 264330547995

Option 3 ID : 264330547996

Option 4 ID : 264330547997

Status : Not Attempted and Marked For Review

Chosen Option : --

Q.17 Rs. 165400 पर 4 वर्षों के लिए 5% वार्षिक दर पर वार्षिक रूप से संयोजित चक्रवृद्धि ब्याज ज्ञात कीजिए।

- Ans
- ✗ 1. Rs. 54367.6
 - ✗ 2. Rs. 34564.98
 - ✗ 3. Rs. 34527.87
 - ✓ 4. Rs. 35644.73

Question Type : MCQ

Question ID : 264330140788

Option 1 ID : 264330551499

Option 2 ID : 264330551501

Option 3 ID : 264330551500

Option 4 ID : 264330551502

Status : Answered

Chosen Option : 2

Q.18 पंकज Rs.1000 में एक घड़ी खरीदता है। वह घड़ी को 20 प्रतिशत के बड़े पर बेचता है और 40 प्रतिशत का लाभ अर्जित करता है। घड़ी का अंकित मूल्य क्या है?

- Ans
- 1. Rs.1640
 - 2. Rs.1880
 - 3. Rs.1750
 - 4. Rs.1980

Question Type : MCQ

Question ID : 264330140185

Option 1 ID : 264330549121

Option 2 ID : 264330549119

Option 3 ID : 264330549120

Option 4 ID : 264330549122

Status : Answered

Chosen Option : 3

Q.19 एक परीक्षा में 6000 छात्रों में से 60% लड़के और 90% लड़कियाँ उत्तीर्ण होती हैं। यदि कुल उत्तीर्ण प्रतिशत 65% था तो लड़कों की संख्या कितनी है?

- Ans
- 1. 5500
 - 2. 5000
 - 3. 3500
 - 4. 4500

Question Type : MCQ

Question ID : 264330133630

Option 1 ID : 264330523545

Option 2 ID : 264330523543

Option 3 ID : 264330523546

Option 4 ID : 264330523544

Status : Answered

Chosen Option : 2

Q.20 यदि A किसी कार्य का 20 प्रतिशत 6 दिनों में कर सकता है, तो A पूरे कार्य को कितने दिनों में समाप्त कर सकता है?

- Ans
- 1. 25 दिन
 - 2. 30 दिन
 - 3. 15 दिन
 - 4. 60 दिन

Question Type : MCQ

Question ID : 264330139628

Option 1 ID : 264330546929

Option 2 ID : 264330546927

Option 3 ID : 264330546928

Option 4 ID : 264330546930

Status : Answered

Chosen Option : 2

Q.1 दिए गए समीकरण को सही करने के लिए किन दो संख्याओं को आपस में बदला जाना चाहिए?
 $1 \times 4 + 3 - 5 = 6$

- Ans
- ✓ 1. 5 और 3
 - ✗ 2. 4 और 5
 - ✗ 3. 3 और 6
 - ✗ 4. 1 और 5

Question Type : MCQ
Question ID : 264330138782
Option 1 ID : 264330543736
Option 2 ID : 264330543737
Option 3 ID : 264330543738
Option 4 ID : 264330543735
Status : Answered
Chosen Option : 1

Q.2 उस विकल्प को चुनिए जो तीसरे शब्द से ठीक उसी प्रकार संबंधित है जिस प्रकार दूसरा शब्द पहले शब्द से संबंधित है।
दूगली : कोलकाता :: गंगा : ?

- Ans
- ✗ 1. बेंगलोर
 - ✗ 2. अयोध्या
 - ✗ 3. चेन्नई
 - ✓ 4. पटना

Question Type : MCQ
Question ID : 264330141202
Option 1 ID : 264330553146
Option 2 ID : 264330553145
Option 3 ID : 264330553143
Option 4 ID : 264330553144
Status : Answered
Chosen Option : 4

Q.3 दो कथन दिए गए हैं और दो निष्कर्ष I और II दिए गए हैं। कथनों को सत्य मानते हुए, चाहे वे सामान्यतः ज्ञात तथ्यों से अलग प्रतीत होते हों, निश्चय कीजिए कि कौन-सा निष्कर्ष तार्किक रूप से कथनों के अनुसार है।

कथन:

सभी श्रृंखला, वृत्त हैं।

कोई श्रृंखला, वर्ग नहीं है।

निष्कर्ष:

I. कुछ वृत्त, वर्ग हैं।

II. कुछ वृत्त, श्रृंखला हैं।

Ans

1. दोनों निष्कर्ष I और II कथनों के अनुसार हैं।

2. केवल निष्कर्ष II कथनों के अनुसार है।

3. केवल निष्कर्ष I कथनों के अनुसार है।

4. न तो निष्कर्ष I और न ही II कथनों के अनुसार है।

Question Type : MCQ

Question ID : 264330140421

Option 1 ID : 264330550065

Option 2 ID : 264330550064

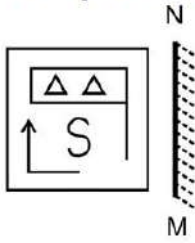
Option 3 ID : 264330550063

Option 4 ID : 264330550066

Status : Answered

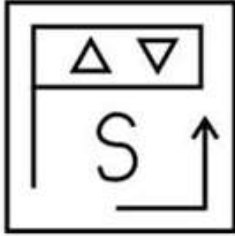
Chosen Option : 2

Q.4 दी गई आकृति के उस सही दर्पण प्रतिबिंब को चुनिए, जो दर्पण को आकृति के दाईं ओर रखने पर बनेगा।

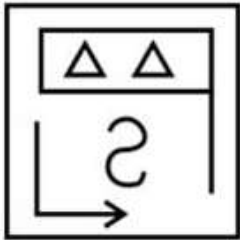


Ans

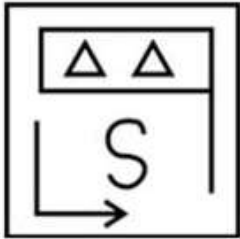
✗ 1.



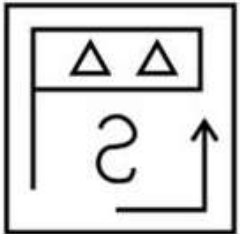
✗ 2.



✗ 3.



✓ 4.



Question Type : MCQ

Question ID : 264330135366

Option 1 ID : 264330530373

Option 2 ID : 264330530372

Option 3 ID : 264330530371

Option 4 ID : 264330530374

Status : Answered

Chosen Option : 4

Q.5 एक परीक्षा भवन में सात छात्र अंकित, छोटू, जितिन, केजल, नीतू, पीयूष और सकाम एक पंक्ति में उत्तर की ओर मुख करके बैठे हैं परंतु जरूरी नहीं कि वे इसी क्रम में बैठें हों। छोटू, सकाम के दाईं ओर से तीसरे स्थान पर बैठा है। अंकित और पीयूष, छोटू के निकटतम पड़ोसी हैं। पीयूष और सकाम के बीच दो से अधिक छात्र बैठे हैं। जितिन, नीतू का एकमात्र पड़ोसी है। जितिन, अंकित के दाईं ओर बैठा है। केजल के सन्दर्भ में नीतू का स्थान कौन-सा है?

- Ans**
- ✓ 1. दाईं ओर से पाँचवाँ
 - ✗ 2. दाईं ओर से तीसरा
 - ✗ 3. बाईं ओर से पाँचवाँ
 - ✗ 4. बाईं ओर से तीसरा

Question Type : **MCQ**
Question ID : **264330140040**
Option 1 ID : **264330548540**
Option 2 ID : **264330548539**
Option 3 ID : **264330548542**
Option 4 ID : **264330548541**
Status : **Answered**
Chosen Option : **1**

Q.6 सात छात्रों एनी, बिली, कैरी, दिशा, ईशा, फैजल और गायत्री ने अलग-अलग अंक प्राप्त किए हैं। दिशा ने फैजल से अधिक अंक प्राप्त किए हैं, जिसने द्वितीय स्थान पर सबसे अधिक अंक प्राप्त किए हैं। कैरी और फैजल के बीच तीन छात्रों ने अंक प्राप्त किए हैं। गायत्री ने कैरी से कम अंक प्राप्त किए हैं। किसने सबसे कम अंक प्राप्त किए हैं?

- Ans**
- ✗ 1. फैजल
 - ✓ 2. गायत्री
 - ✗ 3. एनी
 - ✗ 4. ईशा

Question Type : **MCQ**
Question ID : **264330140020**
Option 1 ID : **264330548462**
Option 2 ID : **264330548461**
Option 3 ID : **264330548460**
Option 4 ID : **264330548459**
Status : **Answered**
Chosen Option : **2**

Q.7 उस विकल्प को चुनिए जो तीसरे पद से ठीक उसी प्रकार संबंधित है जिस प्रकार दूसरा पद पहले पद से संबंधित है और छठा पद पाँचवें पद से संबंधित है।

U39R : P118M :: F18A : ? :: G72K : B217F

- Ans**
- ✗ 1. C55V
 - ✓ 2. A55V
 - ✗ 3. A55W
 - ✗ 4. B55U

Question Type : **MCQ**
Question ID : **264330139550**
Option 1 ID : **264330546615**
Option 2 ID : **264330546616**
Option 3 ID : **264330546618**
Option 4 ID : **264330546617**
Status : **Not Attempted and Marked For Review**
Chosen Option : **--**

Q.8 एक निश्चित कूट भाषा में, 'ABOUT' को '12632' लिखा जाता है। उस भाषा में 'GRACE' को कैसे लिखा जाएगा?

- Ans 1. 79135
 2. 79154
 3. 79153
 4. 71953

Question Type : MCQ

Question ID : 264330140015

Option 1 ID : 264330548440

Option 2 ID : 264330548442

Option 3 ID : 264330548441

Option 4 ID : 264330548439

Status : Answered

Chosen Option : 1

Q.9 निम्नलिखित प्रश्न में कुछ कथन दिए गए हैं और उन कथनों के आधार पर कुछ निष्कर्ष दिए गए हैं। आपको यह मानना है कि दिए गए कथन सत्य हैं चाहे वे समान्यतः ज्ञात तथ्यों से अलग प्रतीत होते हों। सभी निष्कर्षों को पढ़िए और फिर निश्चय कीजिए कि दिए गए निष्कर्षों में से कौन-सा निष्कर्ष तार्किक रूप से दिए गए कथनों के अनुसार है।

कथन:

I. कोई X, S नहीं है।

II. सभी J, X हैं।

निष्कर्ष:

I. कुछ S, X नहीं हैं।

II. कुछ J, S नहीं हैं।

III. कुछ J, X नहीं हैं।

- Ans 1. केवल निष्कर्ष I कथनों के अनुसार है
 2. दोनों निष्कर्ष I और III कथनों के अनुसार हैं
 3. कोई भी निष्कर्ष कथनों के अनुसार नहीं है
 4. दोनों निष्कर्ष I और II कथनों के अनुसार हैं

Question Type : MCQ

Question ID : 264330139981

Option 1 ID : 264330548304

Option 2 ID : 264330548303

Option 3 ID : 264330548306

Option 4 ID : 264330548305

Status : Answered

Chosen Option : 3

Q.10 एक निश्चित कूट भाषा में, 'WORLD' को 'VNQKC' लिखा जाता है। उस कूट भाषा में 'FAINT' को कैसे लिखा जाएगा?

- Ans
- ✓ 1. EZHMS
 - ✗ 2. EZMFS
 - ✗ 3. DHBLH
 - ✗ 4. DMOHC

Question Type : MCQ

Question ID : 264330135353

Option 1 ID : 264330530322

Option 2 ID : 264330530321

Option 3 ID : 264330530319

Option 4 ID : 264330530320

Status : Answered

Chosen Option : 1

Q.11 दी गई श्रृंखला में निम्नलिखित में से कौन-सा अक्षर-समूह प्रश्न चिन्ह(?) के स्थान पर आएगा?
TX, XB, BF, FJ, ?

- Ans
- ✗ 1. KM
 - ✓ 2. JN
 - ✗ 3. JM
 - ✗ 4. KN

Question Type : MCQ

Question ID : 264330140093

Option 1 ID : 264330548754

Option 2 ID : 264330548751

Option 3 ID : 264330548752

Option 4 ID : 264330548753

Status : Answered

Chosen Option : 2

Q.12 छः लड़कियाँ मानसी, श्वेता, मोनिका, पायल, आरती और काजल एक पंक्ति में उत्तर की ओर मुख करके बैठी हैं (परंतु जरूरी नहीं कि वे इसी क्रम में बैठी हों)। श्वेता, आरती के बाईं ओर से दूसरे स्थान पर है। पायल, काजल के दाईं ओर से दूसरे स्थान पर है। काजल, मोनिका के दाईं ओर से दूसरे स्थान पर है। काजल, श्वेता के ठीक बाईं ओर है। आरती के ठीक बाईं ओर कौन बैठा है?

- Ans
- ✗ 1. काजल
 - ✗ 2. मानसी
 - ✗ 3. श्वेता
 - ✓ 4. पायल

Question Type : MCQ

Question ID : 264330139534

Option 1 ID : 264330546553

Option 2 ID : 264330546551

Option 3 ID : 264330546554

Option 4 ID : 264330546552

Status : Answered

Chosen Option : 4

Q.13 उस विकल्प को चुनिए जो तीसरी संख्या से ठीक उसी प्रकार संबंधित है जिस प्रकार दूसरी संख्या पहली संख्या से संबंधित है।
65 : 5 :: 117 : ?

- Ans
- 1. 7
 - 2. 9
 - 3. 6
 - 4. 4

Question Type : MCQ
Question ID : 264330140025
Option 1 ID : 264330548479
Option 2 ID : 264330548481
Option 3 ID : 264330548482
Option 4 ID : 264330548480
Status : Answered
Chosen Option : 2

Q.14 दिए गए दो चिन्हों को आपस में बदलने पर, निम्नलिखित में से कौन-सा समीकरण सही नहीं होगा?

+ और ÷

I. $9 \div 6 \times 4 + 2 - 5 = 16$

II. $5 - 28 + 7 \times 16 \div 4 = -103$

- Ans
- 1. न तो I और न ही II
 - 2. केवल II
 - 3. I और II दोनों
 - 4. केवल I

Question Type : MCQ
Question ID : 264330139987
Option 1 ID : 264330548330
Option 2 ID : 264330548328
Option 3 ID : 264330548329
Option 4 ID : 264330548327
Status : Answered
Chosen Option : 4

Q.15 एक निश्चित कूट भाषा में, 'NUMBER' को 'UNBMRE' लिखा जाता है। उस कूट भाषा में 'CANCER' को कैसे लिखा जाएगा?

- Ans
- 1. ACCNRE
 - 2. ACCNER
 - 3. ACCMRE
 - 4. BCCNRE

Question Type : MCQ
Question ID : 264330139551
Option 1 ID : 264330546619
Option 2 ID : 264330546621
Option 3 ID : 264330546620
Option 4 ID : 264330546622
Status : Answered
Chosen Option : 1

Q.16 उस विकल्प को चुनिए जिसमें समुच्चय की संख्याएँ वही संबंध साझा करती हैं जो दिए गए समुच्चय में संख्याओं द्वारा साझा किया जाता है। (ध्यान दें: संख्याओं को उनके घटक अंकों में अलग-अलग किए बिना, पूर्ण संख्याओं पर संक्रियाएँ की जानी चाहिए। उदा. 13 - 13 पर संक्रियाएँ जैसे 13 को जोड़ना/घटाना/गुणा करना आदि किया जा सकता है। 13 को 1 और 3 में अलग-अलग करने की और फिर 1 और 3 पर गणितीय संक्रियाएँ करने की अनुमति नहीं है)

(10, 6, 32)

(20, 8, 56)

- Ans
- 1. (20, 16, 64)
 - 2. (12, 14, 54)
 - 3. (14, 18, 60)
 - 4. (18, 12, 60)

Question Type : MCQ

Question ID : 264330139582

Option 1 ID : 264330546745

Option 2 ID : 264330546743

Option 3 ID : 264330546744

Option 4 ID : 264330546746

Status : Answered

Chosen Option : 4

Q.17 दी गई श्रृंखला में निम्नलिखित में से कौन-सी संख्या प्रश्न चिन्ह (?) के स्थान पर आएगी?
117, 110, 106, 99, 95, 88, 84, ?

- Ans
- 1. 59
 - 2. 93
 - 3. 47
 - 4. 77

Question Type : MCQ

Question ID : 264330138800

Option 1 ID : 264330543810

Option 2 ID : 264330543808

Option 3 ID : 264330543809

Option 4 ID : 264330543807

Status : Answered

Chosen Option : 4

Q.18 दी गई श्रृंखला में निम्नलिखित में से कौन-सी संख्या प्रश्न चिन्ह (?) के स्थान पर आएगी?
63, 67, 75, 87, 103, ?

- Ans
- 1. 124
 - 2. 121
 - 3. 125
 - 4. 123

Question Type : MCQ

Question ID : 264330140443

Option 1 ID : 264330550153

Option 2 ID : 264330550151

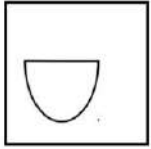
Option 3 ID : 264330550154

Option 4 ID : 264330550152

Status : Answered

Chosen Option : 4

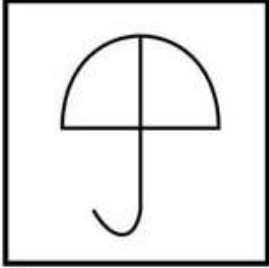
Q.19 उस विकल्प आकृति को चुनिए जिसमें दी गई आकृति (X) उसके भाग के रूप में निहित है। (घूर्णन की अनुमति नहीं है)।



X

Ans

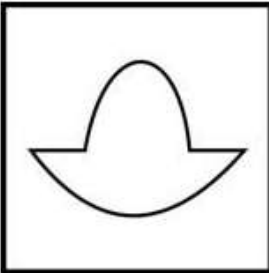
✗ 1.



✓ 2.



✗ 3.



✗ 4.



Question Type : MCQ

Question ID : 264330135365

Option 1 ID : 264330530368

Option 2 ID : 264330530369

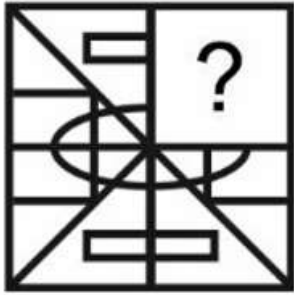
Option 3 ID : 264330530367

Option 4 ID : 264330530370

Status : Answered

Chosen Option : 2

Q.20 कौन-सी उत्तर आकृति प्रश्न आकृति में दिए गए पैटर्न को पूरा करेगी?



Ans

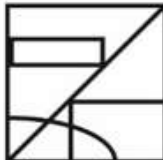
✗ 1.



✓ 2.



✗ 3.



✗ 4.



Question Type : MCQ

Question ID : 264330139990

Option 1 ID : 264330548339

Option 2 ID : 264330548340

Option 3 ID : 264330548342

Option 4 ID : 264330548341

Status : Answered

Chosen Option : 2

Section : General Awareness

Q.1 अक्टूबर 2022 में, ब्रिटेन के पहले भारतीय मूल के प्रधानमंत्री कौन बने?

- Ans
- 1. हैरी आनंद
 - 2. कमला हैरिस
 - 3. नील कश्करी
 - 4. ऋषि सुनक

Question Type : MCQ
Question ID : 264330139656
Option 1 ID : 264330547040
Option 2 ID : 264330547039
Option 3 ID : 264330547042
Option 4 ID : 264330547041
Status : Answered
Chosen Option : 4

Q.2 निम्न में से कौन-सा विकल्प राष्ट्रीय आय की मापन पद्धति का हिस्सा नहीं है?

- Ans
- 1. आय विधि (Income method)
 - 2. उत्पाद विधि (Product method)
 - 3. व्यय विधि (Expenditure method)
 - 4. ऋण विधि (Credit method)

Question Type : MCQ
Question ID : 264330140341
Option 1 ID : 264330549743
Option 2 ID : 264330549744
Option 3 ID : 264330549746
Option 4 ID : 264330549745
Status : Answered
Chosen Option : 4

Q.3 मौर्य काल की भारत में कौन-सी गुफाओं को सबसे पुरानी जीवित रॉक-कट गुफाएँ (surviving rock - cut caves) माना जाता है?

- Ans
- 1. बराबर और नागार्जुनी गुफाएँ (Barabar and Nagarjuni caves)
 - 2. बाघ गुफाएँ (Bagh Caves)
 - 3. अजंता और एलोरा की गुफाएँ (Ajanta and Ellora Caves)
 - 4. एलीफेंटा गुफाएँ (Elephanta Caves)

Question Type : MCQ
Question ID : 264330140269
Option 1 ID : 264330549456
Option 2 ID : 264330549457
Option 3 ID : 264330549455
Option 4 ID : 264330549458
Status : Answered
Chosen Option : 2

Q.4 BPL प्रारंभिक/न्यूनतम आय से संबंधित एक आर्थिक मानदण्ड है। "BPL" का पूर्णरूप क्या है?

- Ans
- 1. बेस पोवर्टी लाइन(Base Poverty Line)
 - 2. बेस प्राइज़ लाइन(Base Price Line)
 - 3. बिलो पोवर्टी लाइन(Below Poverty Line)
 - 4. बिलो प्राइज़ लाइन(Below Price Line)

Question Type : MCQ
Question ID : 264330140304
Option 1 ID : 264330549598
Option 2 ID : 264330549596
Option 3 ID : 264330549597
Option 4 ID : 264330549595
Status : Answered
Chosen Option : 3

Q.5 हमारे सौरमंडल का सबसे छोटा ग्रह कौन-सा है?

- Ans
- 1. शुक्र
 - 2. पृथ्वी
 - 3. बुध
 - 4. मंगल

Question Type : MCQ
Question ID : 264330140282
Option 1 ID : 264330549508
Option 2 ID : 264330549509
Option 3 ID : 264330549507
Option 4 ID : 264330549510
Status : Answered
Chosen Option : 3

Q.6 जो-मल-लोक (Zo-Mal-Lok) लोकनृत्य किस समुदाय से संबंधित है?

- Ans
- 1. चाईमल (Chaimal) समुदाय
 - 2. लेपचा (Lepcha) समुदाय
 - 3. लुशाई (Lushai) समुदाय
 - 4. जमातिया (Jamatia) समुदाय

Question Type : MCQ
Question ID : 264330138971
Option 1 ID : 264330544493
Option 2 ID : 264330544491
Option 3 ID : 264330544494
Option 4 ID : 264330544492
Status : Answered
Chosen Option : 1

Q.7 खेलों के संबंध में, WADA का अर्थ _____ है।

Ans 1.

वर्ल्ड एंटी-डोपिंग एजेंसी (World Anti - Doping Agency)

2.

वर्ल्ड ऑटोनॉमस - डोपिंग एजेंसी (World Autonomous - Doping Agency)

3.

वर्ल्ड एंटी-डोपिंग एसोसिएशन (World Anti - Doping Association)

4.

रेस्लिंग एंटी-डोपिंग एसोसिएशन (Wrestling Anti - Doping Association)

Question Type : MCQ

Question ID : 264330138974

Option 1 ID : 264330544505

Option 2 ID : 264330544506

Option 3 ID : 264330544504

Option 4 ID : 264330544503

Status : Answered

Chosen Option : 3

Q.8 गुग्गा (Gugga) नृत्य निम्नलिखित में से किस राज्य का पारंपरिक लोक नृत्य है?

Ans 1. केरल

2. तमिलनाडु

3. असम

4. हरियाणा

Question Type : MCQ

Question ID : 264330140881

Option 1 ID : 264330551871

Option 2 ID : 264330551874

Option 3 ID : 264330551872

Option 4 ID : 264330551873

Status : Not Answered

Chosen Option : --

Q.9 जवाहरलाल नेहरू बंदरगाह कहाँ स्थित है?

Ans 1. चेन्नई

2. भुवनेश्वर

3. नवी मुंबई

4. कोलकाता

Question Type : MCQ

Question ID : 264330140301

Option 1 ID : 264330549586

Option 2 ID : 264330549584

Option 3 ID : 264330549585

Option 4 ID : 264330549583

Status : Answered

Chosen Option : 4

Q.10 निम्नलिखित में से कौन-सा गुप्त शासक घटोत्कच (Ghatotkacha) का उत्तराधिकारी बना?

Ans

- ✓ 1. चंद्रगुप्त प्रथम
- ✗ 2. चंद्रगुप्त द्वितीय
- ✗ 3. स्कन्दगुप्त
- ✗ 4. कुमारगुप्त प्रथम

Question Type : MCQ

Question ID : 264330140355

Option 1 ID : 264330549801

Option 2 ID : 264330549802

Option 3 ID : 264330549799

Option 4 ID : 264330549800

Status : Answered

Chosen Option : 3

Q.11 तीजन बाई को वर्ष 2003 में उनकी कला के लिए पद्म भूषण से सम्मानित किया गया था। वह किस नृत्य शैली के लिए प्रख्यात हैं?

Ans

- ✗ 1. घूमर (Ghumar)
- ✗ 2. छऊ (Chhau)
- ✗ 3. कालबेलिया (Kalbelia)
- ✓ 4. पंडवानी (Pandavani)

Question Type : MCQ

Question ID : 264330138953

Option 1 ID : 264330544421

Option 2 ID : 264330544420

Option 3 ID : 264330544422

Option 4 ID : 264330544419

Status : Answered

Chosen Option : 1

Q.12 निम्नलिखित में से कौन-सी पुस्तक स्वामी विवेकानंद द्वारा लिखी गई थी ?

Ans

- ✗ 1. एंशियंट इंडिया (Ancient India)
- ✓ 2. द ईस्ट एंड द वेस्ट (The East and the West)
- ✗ 3. नो सीक्रेट्स (No secrets)
- ✗ 4. रिवर ऑफ स्मोक (River of Smoke)

Question Type : MCQ

Question ID : 264330139728

Option 1 ID : 264330547328

Option 2 ID : 264330547327

Option 3 ID : 264330547329

Option 4 ID : 264330547330

Status : Answered

Chosen Option : 2

Q.13 निम्नलिखित में से कौन-सा भारत में मनाए जाने वाले फसल कटाई उत्सवों में से एक नहीं है?

- Ans
- 1. वैसाखी
 - 2. लोहड़ी
 - 3. ओणम
 - 4. दिवाली

Question Type : MCQ
Question ID : 264330139867
Option 1 ID : 264330547847
Option 2 ID : 264330547848
Option 3 ID : 264330547850
Option 4 ID : 264330547849
Status : Answered
Chosen Option : 4

Q.14 Vetti tax is the most frequently mentioned tax in the inscription of Cholas who ruled in Tamil Nadu. This tax was taken in the form of _____.

- Ans
- 1. forced labour
 - 2. grains
 - 3. house rent
 - 4. land revenue

Question Type : MCQ
Question ID : 264330141060
Option 1 ID : 264330552587
Option 2 ID : 264330552589
Option 3 ID : 264330552590
Option 4 ID : 264330552588
Status : Answered
Chosen Option : 4

Q.15 नवंबर 2022 तक लोकसभा के कितने आम चुनाव हो चुके हैं?

- Ans
- 1. 17
 - 2. 13
 - 3. 24
 - 4. 10

Question Type : MCQ
Question ID : 264330140772
Option 1 ID : 264330551437
Option 2 ID : 264330551436
Option 3 ID : 264330551438
Option 4 ID : 264330551435
Status : Not Answered
Chosen Option : --

Q.16 यदि सकल राजकोषीय घाटे का मूल्य निवल ब्याज दायित्व से अधिक होगा, तो सकल प्राथमिक घाटे का मूल्य _____ होगा।

- Ans
- 1. अनंत
 - 2. धनात्मक
 - 3. शून्य
 - 4. ऋणात्मक

Question Type : MCQ

Question ID : 264330140891

Option 1 ID : 264330551911

Option 2 ID : 264330551912

Option 3 ID : 264330551914

Option 4 ID : 264330551913

Status : Answered

Chosen Option : 4

Q.17 निम्नलिखित में से कौन-सा स्थलीय पारितंत्र (terrestrial ecosystem) का एक उदाहरण है?

- Ans
- 1. तालाब
 - 2. घास के मैदान
 - 3. नदी
 - 4. महासागर

Question Type : MCQ

Question ID : 264330140683

Option 1 ID : 264330551082

Option 2 ID : 264330551081

Option 3 ID : 264330551080

Option 4 ID : 264330551079

Status : Answered

Chosen Option : 2

Q.18 रणजी ट्रॉफी का संबंध निम्न में से किस खेल से है?

- Ans
- 1. क्रिकेट
 - 2. फुटबॉल
 - 3. बैडमिंटन
 - 4. हॉकी

Question Type : MCQ

Question ID : 264330140390

Option 1 ID : 264330549942

Option 2 ID : 264330549939

Option 3 ID : 264330549941

Option 4 ID : 264330549940

Status : Answered

Chosen Option : 1

Q.19 2011 की जनगणना के अनुसार, निम्न में से किस राज्य का लिंगानुपात सबसे अधिक है?

- Ans
- 1. महाराष्ट्र
 - 2. मेघालय
 - 3. मध्यप्रदेश
 - 4. उत्तरप्रदेश

Question Type : MCQ
Question ID : 264330140737
Option 1 ID : 264330551297
Option 2 ID : 264330551295
Option 3 ID : 264330551298
Option 4 ID : 264330551296
Status : Answered
Chosen Option : 2

Q.20 लॉर्ड विलियम बेंटिंक (Lord William Bentinck) ने राजा राममोहन राय के सहयोग से _____ की प्रथा को समाप्त कर दिया।

- Ans
- 1. ब्रह्मचर्य
 - 2. धर्म
 - 3. बहुपत्तित्व (Polyandry)
 - 4. सती

Question Type : MCQ
Question ID : 264330140691
Option 1 ID : 264330551112
Option 2 ID : 264330551111
Option 3 ID : 264330551113
Option 4 ID : 264330551114
Status : Answered
Chosen Option : 4

Q.21 1757 के प्लासी के युद्ध के बाद, ब्रिटिश ईस्ट इंडिया कंपनी से कौन प्लासी का बैरन (Baron of Plassey) बना?

- Ans
- 1. रॉबर्ट क्लाइव
 - 2. वारेन हेस्टिंग्स
 - 3. चार्ल्स नेपियर
 - 4. जॉन लॉरेंस

Question Type : MCQ
Question ID : 264330140333
Option 1 ID : 264330549712
Option 2 ID : 264330549714
Option 3 ID : 264330549713
Option 4 ID : 264330549711
Status : Answered
Chosen Option : 3

Q.22 ऐक्टिनाइड श्रेणी _____ धात्विक रासायनिक तत्वों का एक वर्ग है।

- Ans
- 1. 15
 - 2. 12
 - 3. 18
 - 4. 9

Question Type : MCQ
Question ID : 264330140936
Option 1 ID : 264330552091
Option 2 ID : 264330552092
Option 3 ID : 264330552093
Option 4 ID : 264330552094
Status : Answered
Chosen Option : 2

Q.23 पंचायतों से संबंधित प्रावधानों का उल्लेख भारतीय संविधान के किस भाग में किया गया है?

- Ans
- 1. भाग IX
 - 2. भाग V
 - 3. भाग XII
 - 4. भाग VII

Question Type : MCQ
Question ID : 264330139734
Option 1 ID : 264330547353
Option 2 ID : 264330547351
Option 3 ID : 264330547354
Option 4 ID : 264330547352
Status : Answered
Chosen Option : 1

Q.24 बुधादित्य मुखर्जी (Budhaditya Mukherjee) का संबंध निम्नलिखित में से किस वाद्ययंत्र से है?

- Ans
- 1. सारंगी
 - 2. वायलिन
 - 3. सितार
 - 4. वीणा

Question Type : MCQ
Question ID : 264330141064
Option 1 ID : 264330552606
Option 2 ID : 264330552603
Option 3 ID : 264330552605
Option 4 ID : 264330552604
Status : Answered
Chosen Option : 3

Q.25 शैवाल के किस वर्ग को प्रायः हरा शैवाल कहा जाता है?

- Ans
- 1. डेस्मिड्स (Desmids)
 - 2. फियोफाइसी (Phaeophyceae)
 - 3. क्लोरोफाइसी (Chlorophyceae)
 - 4. रोडोफाइसी (Rhodophyceae)

Question Type : MCQ
Question ID : 264330140707
Option 1 ID : 264330551178
Option 2 ID : 264330551175
Option 3 ID : 264330551177
Option 4 ID : 264330551176
Status : Answered
Chosen Option : 3

Section : English Language and Comprehension

Q.1 Four words are given, out of which only one word is spelt correctly. Choose the correctly spelt word.

- Ans
- 1. CAMOFLAGUE
 - 2. COMPARSION
 - 3. GUAGE
 - 4. PRESENCE

Question Type : MCQ
Question ID : 264330135711
Option 1 ID : 264330531731
Option 2 ID : 264330531732
Option 3 ID : 264330531733
Option 4 ID : 264330531734
Status : Answered
Chosen Option : 4

Q.2 Identify the segment that contains a grammatical error. If there is no error, select 'No error'.

Most impressive / was record breaking / 75.6 FPS on Crysis.

- Ans
- 1. No error
 - 2. Most impressive
 - 3. 75.6 FPS on Crysis.
 - 4. was record breaking

Question Type : MCQ
Question ID : 264330136745
Option 1 ID : 264330535690
Option 2 ID : 264330535687
Option 3 ID : 264330535689
Option 4 ID : 264330535688
Status : Answered
Chosen Option : 4

Q.3 Fill in the blank with the most appropriate option.

“What _____ your dad do at the Ministry of Magic, anyway?”

- Ans
- 1. do
 - 2. is
 - 3. does
 - 4. have

Question Type : **MCQ**
Question ID : **264330135748**
Option 1 ID : **264330531876**
Option 2 ID : **264330531878**
Option 3 ID : **264330531877**
Option 4 ID : **264330531875**
Status : **Answered**
Chosen Option : **1**

Q.4 Select the most appropriate word for the given group of words.

To move about from place to place aimlessly

- Ans
- 1. Meadow
 - 2. Path
 - 3. Meander
 - 4. Stream

Question Type : **MCQ**
Question ID : **264330136149**
Option 1 ID : **264330533398**
Option 2 ID : **264330533397**
Option 3 ID : **264330533396**
Option 4 ID : **264330533395**
Status : **Answered**
Chosen Option : **3**

Q.5 Select the most appropriate word for the given group of words.

Disappointed and annoyed about something

- Ans
- 1. Contented
 - 2. Dissuade
 - 3. Disgruntled
 - 4. Surreal

Question Type : **MCQ**
Question ID : **264330136202**
Option 1 ID : **264330533600**
Option 2 ID : **264330533602**
Option 3 ID : **264330533599**
Option 4 ID : **264330533601**
Status : **Answered**
Chosen Option : **2**

Q.6 Improve the underlined part of the sentence. Choose 'No improvement' as an answer if the sentence is grammatically correct.

They will took their grandchildren to the zoo.

- Ans**
- 1. takes their
 - 2. took their
 - 3. taken their
 - 4. No improvement

Question Type : **MCQ**
Question ID : **264330135155**
Option 1 ID : **264330529555**
Option 2 ID : **264330529557**
Option 3 ID : **264330529556**
Option 4 ID : **264330529558**
Status : **Answered**
Chosen Option : **2**

Q.7 Select the most appropriate option to substitute the bracketed segment in the given sentence. If there is no need to substitute it, select 'no substitution required'.

(The people of Philippines has voted) to elect a new president.

- Ans**
- 1. The people of Philippines have voted
 - 2. The people of the Philippines have voted
 - 3. The people of the Philippines has voted
 - 4. No substitution required

Question Type : **MCQ**
Question ID : **264330135668**
Option 1 ID : **264330531567**
Option 2 ID : **264330531568**
Option 3 ID : **264330531569**
Option 4 ID : **264330531570**
Status : **Answered**
Chosen Option : **1**

Q.8 Choose the word that is opposite in meaning to the given word.

Curious

- Ans**
- 1. Doubtful
 - 2. Complex
 - 3. Passionate
 - 4. Uninterested

Question Type : **MCQ**
Question ID : **264330135553**
Option 1 ID : **264330531113**
Option 2 ID : **264330531114**
Option 3 ID : **264330531111**
Option 4 ID : **264330531112**
Status : **Answered**
Chosen Option : **4**

Q.9 Select the appropriate antonym for the underlined word.

The room beneath the collapsed building was empty.

- Ans
- 1. mended
 - 2. finished
 - 3. choked
 - 4. cracked

Question Type : MCQ
Question ID : 264330135528
Option 1 ID : 264330531017
Option 2 ID : 264330531015
Option 3 ID : 264330531018
Option 4 ID : 264330531016
Status : Answered
Chosen Option : 1

Q.10 Find the part of the given sentence that has an error in it. If there is no error, choose 'No error'.

I began with writing one a week and now I do so every day.

- Ans
- 1. now I do so every day.
 - 2. No error
 - 3. one a week and
 - 4. I began with writing

Question Type : MCQ
Question ID : 264330135535
Option 1 ID : 264330531045
Option 2 ID : 264330531046
Option 3 ID : 264330531044
Option 4 ID : 264330531043
Status : Answered
Chosen Option : 4

Q.11 Find the part of the given sentence that has an error in it. If there is no error, choose 'No error'.

Writing habit is a good and easily exercise for the brain.

- Ans
- 1. good and easily exercise
 - 2. for the brain.
 - 3. No error
 - 4. Writing habit is a

Question Type : MCQ
Question ID : 264330135638
Option 1 ID : 264330531452
Option 2 ID : 264330531453
Option 3 ID : 264330531454
Option 4 ID : 264330531451
Status : Answered
Chosen Option : 1

Q.12 Select the most appropriate meaning of the given idiom.

For better or (for) worse

- Ans
- 1. Extreme enthusiasm
 - 2. To accept whatever results; good or bad
 - 3. To be in trouble
 - 4. Become out of control

Question Type : **MCQ**
Question ID : **264330135709**
Option 1 ID : **264330531725**
Option 2 ID : **264330531724**
Option 3 ID : **264330531726**
Option 4 ID : **264330531723**
Status : **Answered**
Chosen Option : **2**

Q.13 Select the wrongly spelt word.

- Ans
- 1. Annul
 - 2. Adverse
 - 3. Anarcy
 - 4. Adulterate

Question Type : **MCQ**
Question ID : **264330136367**
Option 1 ID : **264330534235**
Option 2 ID : **264330534238**
Option 3 ID : **264330534236**
Option 4 ID : **264330534237**
Status : **Answered**
Chosen Option : **3**

Q.14 Fill in the blank with the most appropriate option.

When we reached my room, I couldn't _____ back my smile.

- Ans
- 1. hold
 - 2. held
 - 3. kept
 - 4. squeeze

Question Type : **MCQ**
Question ID : **264330135721**
Option 1 ID : **264330531773**
Option 2 ID : **264330531771**
Option 3 ID : **264330531772**
Option 4 ID : **264330531774**
Status : **Answered**
Chosen Option : **1**

Q.15 Select the word from the options which is similar in meaning to the bracketed word given in the sentence below.
He is interested in how our (perceptions) of death affect the way we live.

- Ans**
- 1. misconceptions
 - 2. bewilderments
 - 3. approaches
 - 4. ignorance

Question Type : **MCQ**
Question ID : **264330135732**
Option 1 ID : **264330531812**
Option 2 ID : **264330531813**
Option 3 ID : **264330531811**
Option 4 ID : **264330531814**
Status : **Answered**
Chosen Option : **3**

Q.16 Improve the underlined part of the sentence. Choose 'No improvement' as an answer if the sentence is grammatically correct.

What should I doing if the power goes out?

- Ans**
- 1. should I do
 - 2. No improvement
 - 3. shall I does
 - 4. should I had done

Question Type : **MCQ**
Question ID : **264330135640**
Option 1 ID : **264330531460**
Option 2 ID : **264330531462**
Option 3 ID : **264330531461**
Option 4 ID : **264330531459**
Status : **Answered**
Chosen Option : **1**

Q.17 Select the most appropriate meaning of the given idiom.

Long in the tooth

- Ans**
- 1. To be old, often too old to do something
 - 2. The show has come to an end
 - 3. Killing of a certain ethnic or religious group on a massive scale
 - 4. Be optimistic, even difficult times will lead to better days

Question Type : **MCQ**
Question ID : **264330136365**
Option 1 ID : **264330534227**
Option 2 ID : **264330534228**
Option 3 ID : **264330534229**
Option 4 ID : **264330534230**
Status : **Answered**
Chosen Option : **4**

Q.18 Select the most appropriate option to fill in the blank.

Instead of the sweet taste she expected, it was _____ - like alum

- Ans
- 1. dulcet
 - 2. bitter
 - 3. tenacious
 - 4. aromatic

Question Type : MCQ
Question ID : 264330135177
Option 1 ID : 264330529642
Option 2 ID : 264330529640
Option 3 ID : 264330529641
Option 4 ID : 264330529639
Status : Answered
Chosen Option : 2

Q.19 Fill in the blank with the most appropriate option.

They were _____ there when Janvi heard something large and heavy collide with the door.

- Ans
- 1. almost
 - 2. about
 - 3. most
 - 4. much

Question Type : MCQ
Question ID : 264330136159
Option 1 ID : 264330533438
Option 2 ID : 264330533435
Option 3 ID : 264330533436
Option 4 ID : 264330533437
Status : Answered
Chosen Option : 1

Q.20 Select the most appropriate synonym of the given word.

Advocate

- Ans
- 1. Experience
 - 2. Forever
 - 3. Support
 - 4. Justice

Question Type : MCQ
Question ID : 264330135861
Option 1 ID : 264330532308
Option 2 ID : 264330532307
Option 3 ID : 264330532310
Option 4 ID : 264330532309
Status : Answered
Chosen Option : 4

Comprehension:

In the following passage some words have been deleted. Fill in the blanks with the help of the alternatives given. Select the most appropriate option for each number.

Body language (1) _____ ideas or thoughts by certain actions, either intentionally or unintentionally. A (2) _____ can be a way of flirting or indicating that the party is only joking . A (3) _____ signifies approval, while (4) _____ of the head indicates a negative reaction.

Other forms of non (5) _____ language can be found in Braille (a system of raised dots read with the fingertips), signal flags, Morse code, and smoke signals..

SubQuestion No : 21

Q.21 Select the most appropriate option to fill in blank number 1.

- Ans**
- 1. transmits
 - 2. delimits
 - 3. intermits
 - 4. retransmits

Question Type : **MCQ**

Question ID : **264330136353**

Option 1 ID : **264330534180**

Option 2 ID : **264330534181**

Option 3 ID : **264330534179**

Option 4 ID : **264330534182**

Status : **Answered**

Chosen Option : **1**

Comprehension:

In the following passage some words have been deleted. Fill in the blanks with the help of the alternatives given. Select the most appropriate option for each number.

Body language (1) _____ ideas or thoughts by certain actions, either intentionally or unintentionally. A (2) _____ can be a way of flirting or indicating that the party is only joking . A (3) _____ signifies approval, while (4) _____ of the head indicates a negative reaction.

Other forms of non (5) _____ language can be found in Braille (a system of raised dots read with the fingertips), signal flags, Morse code, and smoke signals..

SubQuestion No : 22

Q.22 Select the most appropriate option to fill in blank number 2.

- Ans**
- 1. clap
 - 2. wink
 - 3. shake
 - 4. nod

Question Type : **MCQ**

Question ID : **264330136354**

Option 1 ID : **264330534186**

Option 2 ID : **264330534183**

Option 3 ID : **264330534184**

Option 4 ID : **264330534185**

Status : **Answered**

Chosen Option : **2**

Comprehension:

In the following passage some words have been deleted. Fill in the blanks with the help of the alternatives given. Select the most appropriate option for each number.

Body language (1) _____ ideas or thoughts by certain actions, either intentionally or unintentionally. A (2) _____ can be a way of flirting or indicating that the party is only joking . A (3) _____ signifies approval, while (4) _____ of the head indicates a negative reaction.

Other forms of non (5) _____ language can be found in Braille (a system of raised dots read with the fingertips), signal flags, Morse code, and smoke signals..

SubQuestion No : 23

Q.23 Select the most appropriate option to fill in blank number 3.

- Ans
- 1. clap
 - 2. nod
 - 3. shake
 - 4. wink

Question Type : MCQ

Question ID : 264330136355

Option 1 ID : 264330534190

Option 2 ID : 264330534189

Option 3 ID : 264330534188

Option 4 ID : 264330534187

Status : Answered

Chosen Option : 3

Comprehension:

In the following passage some words have been deleted. Fill in the blanks with the help of the alternatives given. Select the most appropriate option for each number.

Body language (1) _____ ideas or thoughts by certain actions, either intentionally or unintentionally. A (2) _____ can be a way of flirting or indicating that the party is only joking . A (3) _____ signifies approval, while (4) _____ of the head indicates a negative reaction.

Other forms of non (5) _____ language can be found in Braille (a system of raised dots read with the fingertips), signal flags, Morse code, and smoke signals..

SubQuestion No : 24

Q.24 Select the most appropriate option to fill in blank number 4.

- Ans
- 1. nod
 - 2. shake
 - 3. wink
 - 4. clap

Question Type : MCQ

Question ID : 264330136356

Option 1 ID : 264330534193

Option 2 ID : 264330534192

Option 3 ID : 264330534191

Option 4 ID : 264330534194

Status : Answered

Chosen Option : 1

Comprehension:

In the following passage some words have been deleted. Fill in the blanks with the help of the alternatives given. Select the most appropriate option for each number.

Body language (1) _____ ideas or thoughts by certain actions, either intentionally or unintentionally. A (2) _____ can be a way of flirting or indicating that the party is only joking . A (3) _____ signifies approval, while (4) _____ of the head indicates a negative reaction.

Other forms of non (5) _____ language can be found in Braille (a system of raised dots read with the fingertips), signal flags, Morse code, and smoke signals..

SubQuestion No : 25

Q.25 Select the most appropriate option to fill in blank number 5.

- Ans**
- 1. holistic
 - 2. linguistic
 - 3. parodistic
 - 4. logistic

Question Type : **MCQ**

Question ID : **264330136357**

Option 1 ID : **264330534198**

Option 2 ID : **264330534195**

Option 3 ID : **264330534196**

Option 4 ID : **264330534197**

Status : **Answered**

Chosen Option : **3**